

## Education Consultant India Ltd.

### Notations :

- 1.Options shown in green color and with ✓ icon are correct.
- 2.Options shown in red color and with ✘ icon are incorrect.

<b>Question Paper Name:</b>	Lower Division Clerk 17th August 2019 S3
<b>Subject Name:</b>	LOWER DIVISION CLERK
<b>Creation Date:</b>	2019-08-17 19:29:18
<b>Duration:</b>	120
<b>Total Marks:</b>	200
<b>Display Marks:</b>	Yes
<b>Share Answer Key With Delivery Engine:</b>	No
<b>Actual Answer Key:</b>	Yes
<b>Calculator:</b>	None
<b>Magnifying Glass Required?:</b>	No
<b>Ruler Required?:</b>	No
<b>Eraser Required?:</b>	No
<b>Scratch Pad Required?:</b>	No
<b>Rough Sketch/Notepad Required?:</b>	No
<b>Protractor Required?:</b>	No
<b>Show Watermark on Console?:</b>	Yes
<b>Highlighter:</b>	No
<b>Auto Save on Console?:</b>	No

### Mental Ability 1

<b>Group Number :</b>	1
<b>Group Id :</b>	545927291
<b>Group Maximum Duration :</b>	0
<b>Group Minimum Duration :</b>	0
<b>Revisit allowed for view? :</b>	No
<b>Revisit allowed for edit? :</b>	No
<b>Break time:</b>	0
<b>Group Marks:</b>	20
<b>Revisit allowed for group Instructions? :</b>	Yes
<b>Maximum Instruction Time:</b>	0
<b>Minimum Instruction Time:</b>	0

### Mental Ability 1

<b>Section Id :</b>	545927291
<b>Section Number :</b>	1
<b>Section type :</b>	Online
<b>Mandatory or Optional:</b>	Mandatory
<b>Number of Questions:</b>	20
<b>Number of Questions to be attempted:</b>	20
<b>Section Marks:</b>	20

Display Number Panel: Yes  
Group All Questions: No

Sub-Section Number: 1  
Sub-Section Id: 545927349  
Question Shuffling Allowed : Yes

Question Number : 1 Question Id : 5459275859 Question Type : MCQ Option Shuffling : Yes Display Question Number : Yes  
Single Line Question Option : No Option Orientation : Vertical

Correct Marks : 1 Wrong Marks : 0.25

Arrange the given words in the sequence in which they occur in the dictionary.

1. Definetely
2. Defined
3. Defeat
4. Decomposed
5. Defame

Options :

1. ✘ 45312
2. ✘ 42513
3. ✘ 42135
4. ✔ 45321

Question Number : 1 Question Id : 5459275859 Question Type : MCQ Option Shuffling : Yes Display Question Number : Yes  
Single Line Question Option : No Option Orientation : Vertical

Correct Marks : 1 Wrong Marks : 0.25

निम्नलिखित शब्दों को शब्दकोश में आने वाले क्रम के अनुसार लिखें

1. Definetely
2. Defined
3. Defeat
4. Decomposed
5. Defame

Options :

1. ✘ 45312
2. ✘ 42513
3. ✘ 42135
4. ✔ 45321

Question Number : 2 Question Id : 5459275860 Question Type : MCQ Option Shuffling : Yes Display Question Number : Yes  
Single Line Question Option : No Option Orientation : Vertical

Correct Marks : 1 Wrong Marks : 0.25

A series is given with one term wrong. Select that wrong term from the given alternatives.

EHJL, HJMN, KLNP, NNSR

Options :

1. ✘ EHJL
2. ✘ HJMN
3. ✔ KLNP
4. ✘ NNSR

Question Number : 2 Question Id : 5459275860 Question Type : MCQ Option Shuffling : Yes Display Question Number : Yes  
Single Line Question Option : No Option Orientation : Vertical

Correct Marks : 1 Wrong Marks : 0.25

एक अनुक्रम दिया गया है, जिसमें से एक पद गलत है। दिए गए विकल्पों में से उस गलत पद को चुनिए।

EHJL, HJMN, KLNP, NNSR

Options :

1. ✘ EHJL
2. ✘ HJMN
3. ✔ KLNP
4. ✘ NNSR

Question Number : 3 Question Id : 5459275861 Question Type : MCQ Option Shuffling : Yes Display Question Number : Yes  
Single Line Question Option : No Option Orientation : Vertical

Correct Marks : 1 Wrong Marks : 0.25

A series is given with one term missing. Select the correct alternative from the given ones that will complete the series.

A6, D8, G10, J12, ?

Options :

1. ✔ M14
2. ✘ N14
3. ✘ M16
4. ✘ N16

Question Number : 3 Question Id : 5459275861 Question Type : MCQ Option Shuffling : Yes Display Question Number : Yes  
Single Line Question Option : No Option Orientation : Vertical

Correct Marks : 1 Wrong Marks : 0.25

एक अनुक्रम दिया गया है, जिसमें से एक पद लुप्त है। दिए गए विकल्पों में से वह सही विकल्प चुनिए, जो अनुक्रम को पूरा करे।

A6, D8, G10, J12, ?

Options :

1. ✔ M14
2. ✘ N14
3. ✘ M16
4. ✘ N16

Question Number : 4 Question Id : 5459275862 Question Type : MCQ Option Shuffling : Yes Display Question Number : Yes  
Single Line Question Option : No Option Orientation : Vertical

Correct Marks : 1 Wrong Marks : 0.25

In the following question, select the odd word from the given alternatives.

Options :

1. ✘ Newton
2. ✘ Pascal
3. ✘ Watt
4. ✔ Force

Question Number : 4 Question Id : 5459275862 Question Type : MCQ Option Shuffling : Yes Display Question Number : Yes  
Single Line Question Option : No Option Orientation : Vertical

Correct Marks : 1 Wrong Marks : 0.25

निम्नलिखित प्रश्न में दिए गए विकल्पों में से विषम शब्द को चुनिए।

Options :

- ✘ न्यूटन
- ✘ पास्कल
- ✘ वॉट
- ✔ बल

Question Number : 5 Question Id : 5459275863 Question Type : MCQ Option Shuffling : Yes Display Question Number : Yes  
Single Line Question Option : No Option Orientation : Vertical

Correct Marks : 1 Wrong Marks : 0.25

In the following question, four letter pairs are given. The letters on left side of (-) is related to the letters on the right side of (-) with some Logic/Rule/Relation. Three are similar on basis of same Logic/Rule/Relation. Select the odd one out from the given alternatives.

Options :

- ✘ DE - IJ
- ✘ IJ - NO
- ✔ NO - TS
- ✘ ST - XY

Question Number : 5 Question Id : 5459275863 Question Type : MCQ Option Shuffling : Yes Display Question Number : Yes  
Single Line Question Option : No Option Orientation : Vertical

Correct Marks : 1 Wrong Marks : 0.25

नीचे दिए गए प्रश्न में, चार अक्षर युग्म दिए गए हैं। (-) के बायीं ओर दिये गये अक्षर (-) के दायीं ओर दिये गये अक्षर से किसी तर्क/नियम/संबंध से संबंधित है। तीन उसी एक तर्क/नियम/संबंध के आधार पर समान हैं। दिए गए विकल्पों में से विषम को चुनिए।

Options :

- ✘ DE - IJ
- ✘ IJ - NO
- ✔ NO - TS
- ✘ ST - XY

Question Number : 6 Question Id : 5459275864 Question Type : MCQ Option Shuffling : Yes Display Question Number : Yes  
Single Line Question Option : No Option Orientation : Vertical

Correct Marks : 1 Wrong Marks : 0.25

In the following question, select the odd word pair from the given alternatives.

Options :

- ✘ Tennis : Court
- ✘ Skatting : Rink
- ✔ Arena : Wrestling
- ✘ Cricket : Pitch

Question Number : 6 Question Id : 5459275864 Question Type : MCQ Option Shuffling : Yes Display Question Number : Yes  
Single Line Question Option : No Option Orientation : Vertical

Correct Marks : 1 Wrong Marks : 0.25

निम्नलिखित प्रश्न में दिए गए विकल्पों में से विषम शब्द युग्म को चुनिए।

Options :

- ✘ टेनिस : कोर्ट
- ✘ स्केटिंग : रिंग
- ✔ अखाड़ा : कुश्ती
- ✘ क्रिकेट : पिच

Question Number : 7 Question Id : 5459275865 Question Type : MCQ Option Shuffling : Yes Display Question Number : Yes  
Single Line Question Option : No Option Orientation : Vertical

Correct Marks : 1 Wrong Marks : 0.25

In the following question, select the related word pair from the given alternatives.

South : Direction :: ?

Options :

1. ✘ North : West
2. ✔ Gold : Metal
3. ✘ Kilogram : Foot
4. ✘ Animal : Rat

Question Number : 7 Question Id : 5459275865 Question Type : MCQ Option Shuffling : Yes Display Question Number : Yes  
Single Line Question Option : No Option Orientation : Vertical

Correct Marks : 1 Wrong Marks : 0.25

निम्नलिखित प्रश्न में दिए गए विकल्पों में से संबंधित शब्द युग्म को चुनिए।

दक्षिण : दिशा :: ?

Options :

1. ✘ उत्तर : पश्चिम
2. ✔ स्वर्ण : धातु
3. ✘ किलोग्राम : फुट
4. ✘ जानवर : चूहा

Question Number : 8 Question Id : 5459275866 Question Type : MCQ Option Shuffling : Yes Display Question Number : Yes  
Single Line Question Option : No Option Orientation : Vertical

Correct Marks : 1 Wrong Marks : 0.25

In the following question, select the related words from the given alternatives.

Newton : Force :: Watt : ?

Options :

1. ✘ Frequency
2. ✘ Work
3. ✔ Power
4. ✘ Length

Question Number : 8 Question Id : 5459275866 Question Type : MCQ Option Shuffling : Yes Display Question Number : Yes  
Single Line Question Option : No Option Orientation : Vertical

Correct Marks : 1 Wrong Marks : 0.25

निम्नलिखित प्रश्न में दिए गए विकल्पों में से संबंधित शब्दों को चुनिए।

न्यूटन : बल :: वॉट : ?

Options :

1. ✘ आवृत्ति
2. ✘ कार्य
3. ✔ शक्ति
4. ✘ लम्बाई

Question Number : 9 Question Id : 5459275867 Question Type : MCQ Option Shuffling : Yes Display Question Number : Yes  
Single Line Question Option : No Option Orientation : Vertical

Correct Marks : 1 Wrong Marks : 0.25

In the following question, select the related letters from the given alternatives.

ITSK : MVUN :: APOC : ?

Options :

1. ✘ DRQH
2. ✔ ERQF
3. ✘ EQRG
4. ✘ DQRH

Question Number : 9 Question Id : 5459275867 Question Type : MCQ Option Shuffling : Yes Display Question Number : Yes  
Single Line Question Option : No Option Orientation : Vertical

Correct Marks : 1 Wrong Marks : 0.25

निम्नलिखित प्रश्न में दिए गए विकल्पों में से संबंधित अक्षरों को चुनिए।

ITSK : MVUN :: APOC : ?

Options :

1. ✘ DRQH
2. ✔ ERQF
3. ✘ EQRG
4. ✘ DQRH

Question Number : 10 Question Id : 5459275868 Question Type : MCQ Option Shuffling : Yes Display Question Number : Yes  
Single Line Question Option : No Option Orientation : Vertical

Correct Marks : 1 Wrong Marks : 0.25

In a certain code language, 'COPY' is called as 'BLUE', 'BLUE' is called as 'PEN', 'PEN' is called as 'PHONE', 'PHONE' is called as 'PLASTIC', 'PLASTIC' is called as 'MILK'. What do we use for writing?

Options :

1. ✔ PHONE
2. ✘ PLASTIC
3. ✘ BLUE
4. ✘ COPY

Question Number : 10 Question Id : 5459275868 Question Type : MCQ Option Shuffling : Yes Display Question Number : Yes  
Single Line Question Option : No Option Orientation : Vertical

Correct Marks : 1 Wrong Marks : 0.25

एक विशिष्ट कोड भाषा में, 'कॉपी' को 'नीला' कहा जाता है, 'नीला' को 'कलम' कहा जाता है, 'कलम' को 'फोन' कहा जाता है, 'फोन' को 'प्लास्टिक' कहा जाता है, 'प्लास्टिक' को 'दूध' कहा जाता है। लिखने के लिए हम क्या उपयोग करते हैं?

Options :

1. ✔ फोन
2. ✘ प्लास्टिक
3. ✘ नीला
4. ✘ कॉपी

Question Number : 11 Question Id : 5459275869 Question Type : MCQ Option Shuffling : Yes Display Question Number : Yes  
Single Line Question Option : No Option Orientation : Vertical

Correct Marks : 1 Wrong Marks : 0.25

In a certain code language, 'ARMY' is written as '171', 'EYES' is written as '162'. What is the code for 'ALSO' in that code language?

Options :

1. ✘ 139
2. ✘ 151
3. ✔ 141
4. ✘ 106

Question Number : 11 Question Id : 5459275869 Question Type : MCQ Option Shuffling : Yes Display Question Number : Yes Single Line Question Option : No Option Orientation : Vertical

Correct Marks : 1 Wrong Marks : 0.25

एक विशिष्ट कोड भाषा में, 'ARMY' को '171' लिखा जाता है, 'EYES' को '162' लिखा जाता है। इस कोड भाषा में 'ALSO' का कोड क्या है?

Options :

1. ✘ 139
2. ✘ 151
3. ✔ 141
4. ✘ 106

Question Number : 12 Question Id : 5459275870 Question Type : MCQ Option Shuffling : Yes Display Question Number : Yes Single Line Question Option : No Option Orientation : Vertical

Correct Marks : 1 Wrong Marks : 0.25

In a certain code language, 'MEDIUM' is written as 'PBGFXJ'. What is the code for 'WHITES' in that code language?

Options :

1. ✘ ZELQHR
2. ✘ ZFLQHP
3. ✔ ZELQHP
4. ✘ ZFLQHR

Question Number : 12 Question Id : 5459275870 Question Type : MCQ Option Shuffling : Yes Display Question Number : Yes Single Line Question Option : No Option Orientation : Vertical

Correct Marks : 1 Wrong Marks : 0.25

एक विशिष्ट कोड भाषा में, 'MEDIUM' को 'PBGFXJ' लिखा जाता है। इस कोड भाषा में 'WHITES' का कोड क्या है?

Options :

1. ✘ ZELQHR
2. ✘ ZFLQHP
3. ✔ ZELQHP
4. ✘ ZFLQHR

Question Number : 13 Question Id : 5459275871 Question Type : MCQ Option Shuffling : Yes Display Question Number : Yes Single Line Question Option : No Option Orientation : Vertical

Correct Marks : 1 Wrong Marks : 0.25

Rishab and Keshav are good at cricket and basketball. Sohan and Rishab are good at cricket and football. Gautam and Keshav are good at hockey and basketball. Sachin, Gautam and Mohan are good at baseball and football. Which of the following statement is NOT correct?

Options :

1. ✘ Rishab is good at cricket, football and basketball.
2. ✔ Sachin is good at football, hockey and baseball.
3. ✘ Keshav is good at cricket, hockey and basketball.
4. ✘ Gautam is good at football, hockey, basketball and baseball.

Question Number : 13 Question Id : 5459275871 Question Type : MCQ Option Shuffling : Yes Display Question Number : Yes  
Single Line Question Option : No Option Orientation : Vertical

Correct Marks : 1 Wrong Marks : 0.25

ऋषभ और केशव क्रिकेट और बास्केटबॉल में अच्छे हैं। सोहन और ऋषभ क्रिकेट और फुटबॉल में अच्छे हैं। गौतम और केशव हॉकी और बास्केटबॉल में अच्छे हैं। सचिन, गौतम और मोहन बेसबॉल और फुटबॉल में अच्छे हैं। निम्नलिखित में से कौन सा कथन सही नहीं है?

Options :

1. ✘ ऋषभ क्रिकेट, फुटबॉल और बास्केटबॉल में अच्छा है
2. ✔ सचिन फुटबॉल, हॉकी और बेसबॉल में अच्छा है
3. ✘ केशव क्रिकेट, हॉकी और बास्केटबॉल में अच्छा है
4. ✘ गौतम फुटबॉल, हॉकी, बास्केटबॉल और बेसबॉल में अच्छा है

Question Number : 14 Question Id : 5459275872 Question Type : MCQ Option Shuffling : Yes Display Question Number : Yes  
Single Line Question Option : No Option Orientation : Vertical

Correct Marks : 1 Wrong Marks : 0.25

Six members of a family sat down in a row for a photo session. Only Arjun is sitting between Keshav and Sonam. Mohit and Naina are sitting at the corners. No one is sitting between Naina and Sonam. Where is Sunil sitting?

Options :

1. ✘ Between Mohit and Arjun
2. ✘ Between Naina and Arjun
3. ✘ Between Sonam and Keshav
4. ✔ Between Keshav and Mohit

Question Number : 14 Question Id : 5459275872 Question Type : MCQ Option Shuffling : Yes Display Question Number : Yes  
Single Line Question Option : No Option Orientation : Vertical

Correct Marks : 1 Wrong Marks : 0.25

एक परिवार के छः सदस्य फोटो खिंचवाने के लिए एक पंक्ति में बैठे हैं। केशव और सोनम के बीच में केवल अर्जुन बैठा है। मोहित और नैना सिरो पर बैठे हैं। नैना और सोनम के बीच में कोई नहीं बैठा है। सुनील कहाँ बैठा है?

Options :

1. ✘ मोहित और अर्जुन के बीच
2. ✘ नैना और अर्जुन के बीच
3. ✘ सोनम और केशव के बीच
4. ✔ केशव और मोहित के बीच

Question Number : 15 Question Id : 5459275873 Question Type : MCQ Option Shuffling : Yes Display Question Number : Yes  
Single Line Question Option : No Option Orientation : Vertical

Correct Marks : 1 Wrong Marks : 0.25

P, Q, R, S, T and U are six sisters. Q is elder than P, but younger than S. T is younger than P. R and U are twins. P is younger than R. Q is elder than U. Which of the following statement(s) is/are correct?

- I. Q is elder than R.
- II. P is not younger than U.
- III. R is younger than S.
- IV. T is not the youngest among six sisters.

Options :

1. ✘ I and II
2. ✘ I and IV
3. ✔ I and III
4. ✘ I, II and III



Question Number : 15 Question Id : 5459275873 Question Type : MCQ Option Shuffling : Yes Display Question Number : Yes  
Single Line Question Option : No Option Orientation : Vertical

Correct Marks : 1 Wrong Marks : 0.25

P, Q, R, S, T और U छह बहनें हैं। Q, P से बड़ी है, लेकिन S से छोटी है। T, P से छोटी है। R और U जुड़वाँ हैं। P, R से छोटी है। Q, U से बड़ी है। निम्नलिखित में से कौन सा/से कथन सही है/हैं?

- I. Q, R से बड़ी है
- II. P, U से छोटी नहीं है
- III. R, S से छोटी है
- IV. T, छह बहनों में सबसे छोटी नहीं है

Options :

1. ✘ I और II
2. ✘ I और IV
3. ✔ I और III
4. ✘ I, II और III

Question Number : 16 Question Id : 5459275874 Question Type : MCQ Option Shuffling : Yes Display Question Number : Yes  
Single Line Question Option : No Option Orientation : Vertical

Correct Marks : 1 Wrong Marks : 0.25

Siya is younger than Riya. Kishore is younger than Riya but elder than Siya. Gautam is elder than both Rohan and Riya. Riya is younger than Rohan. Who is the second youngest among these five persons?

Options :

1. ✘ Siya
2. ✘ Riya
3. ✘ Gautam
4. ✔ Kishore

Question Number : 16 Question Id : 5459275874 Question Type : MCQ Option Shuffling : Yes Display Question Number : Yes  
Single Line Question Option : No Option Orientation : Vertical

Correct Marks : 1 Wrong Marks : 0.25

सिया, रिया से छोटी है। किशोर, रिया से छोटा है लेकिन सिया से बड़ा है। गौतम, रोहन और रिया दोनों से बड़ा है। रिया, रोहन से छोटी है। इन पाँच व्यक्तियों में से दूसरा सबसे छोटा कौन है?

Options :

1. ✘ सिया
2. ✘ रिया
3. ✘ गौतम
4. ✔ किशोर

Question Number : 17 Question Id : 5459275875 Question Type : MCQ Option Shuffling : Yes Display Question Number : Yes  
Single Line Question Option : No Option Orientation : Vertical

Correct Marks : 1 Wrong Marks : 0.25

Six persons O1, O2, O3, O4, O5 and O6 are sitting around a circular table facing towards the centre. Only O5 is sitting between O6 and O4. Only O2 is sitting between O6 and O1. O3 is second to the left of O5. Which of the following statement(s) is/are correct?

- I. O1 is not sitting to the immediate right of O3.
- II. Only O2 is not sitting between O1 and O6.
- III. O5 is not second to the left of O2.
- IV. O4 is sitting to immediate left of O5.

Options :

1. ✘ Only IV
2. ✘ Only II and IV
3. ✔ Only I and IV

4. ✖ Only III and IV

Question Number : 17 Question Id : 5459275875 Question Type : MCQ Option Shuffling : Yes Display Question Number : Yes  
Single Line Question Option : No Option Orientation : Vertical

Correct Marks : 1 Wrong Marks : 0.25

छह व्यक्ति O1, O2, O3, O4, O5 और O6 केंद्र की ओर मुख करके एक वृत्तकार मेज़ के रईद - गिंद बैठे हैं। O6 और O4 के बीच में केवल O5 बैठा है। O6 और O1 के बीच में केवल O2 बैठा है। O3, O5 के बायीं ओर दूसरा है। निम्नलिखित में से कौन सा/से कथन सही है/हैं?

- I. O1, O3 के तुरंत दायीं ओर नहीं बैठा है।
- II. O1 और O6 के बीच केवल O2 नहीं बैठा है।
- III. O5, O2 के बायीं ओर दूसरा नहीं है।
- IV. O4, O5 के तुरंत बायीं ओर बैठा है।

Options :

- 1. ✖ केवल IV
- 2. ✖ केवल II और IV
- 3. ✔ केवल I और IV
- 4. ✖ केवल III और IV

Question Number : 18 Question Id : 5459275876 Question Type : MCQ Option Shuffling : Yes Display Question Number : Yes  
Single Line Question Option : No Option Orientation : Vertical

Correct Marks : 1 Wrong Marks : 0.25

The question below has some statements followed by some conclusions based on those statements.. Taking the given statements to be true even if they seem to be at variance from commonly known facts. Read all the conclusions and then decide which of the given conclusion logically follows the given statements.

Statements:

- I. All chairs are tables.
- II. Some pens are chairs.

Conclusions:

- I. Some tables are pens.
- II. All pens are tables.

Options :

- 1. ✔ Only conclusion I follow
- 2. ✖ Only conclusion II follow
- 3. ✖ Both conclusion I and II follow
- 4. ✖ Neither conclusion follow

Question Number : 18 Question Id : 5459275876 Question Type : MCQ Option Shuffling : Yes Display Question Number : Yes  
Single Line Question Option : No Option Orientation : Vertical

Correct Marks : 1 Wrong Marks : 0.25

नीचे दिए गए प्रश्न में कुछ कथन और उनके बाद उन कथनों पर आधारित कुछ निष्कर्ष दिए गए हैं। दिए गए कथनों को सही माने, चाहे उनमें सामान्य ज्ञात तथ्यों से भिन्नता हो। सभी निष्कर्ष पढ़ें और फिर निर्धारित करें कि दिए गए कौन से निष्कर्ष, दिए गए कथनों के आधार पर युक्तिसंगत हैं।

कथन:

- I. सभी कुर्सियाँ मेज़ हैं।
- II. कुछ कलम कुर्सियाँ हैं।

निष्कर्ष:

- I. कुछ मेज़ कलम हैं।
- II. सभी कलम मेज़ हैं।

Options :

- 1. ✔ केवल निष्कर्ष I अनुसरण करता है।
- 2. ✖ केवल निष्कर्ष II अनुसरण करता है।

3. ✖ दोनों निष्कर्ष I तथा II अनुसरण करते हैं
4. ✖ कोई भी निष्कर्ष अनुसरण नहीं करता है

Question Number : 19 Question Id : 5459275877 Question Type : MCQ Option Shuffling : Yes Display Question Number : Yes  
Single Line Question Option : No Option Orientation : Vertical

Correct Marks : 1 Wrong Marks : 0.25

The question below has some statements followed by some conclusions based on those statements.. Taking the given statements to be true even if they seem to be at variance from commonly known facts. Read all the conclusions and then decide which of the given conclusion logically follows the given statements.

Statements:

- I. Some tables are pencils.
- II. All pencils are pens.
- III. All tables are cups.

Conclusions:

- I. Some cups are pencils.
- II. Some pencils are tables.
- III. All tables are pens.

Options :

1. ✖ Only conclusion II follow
2. ✖ Both conclusion I and III follow
3. ✔ Both conclusion I and II follow
4. ✖ Only conclusion III follow

Question Number : 19 Question Id : 5459275877 Question Type : MCQ Option Shuffling : Yes Display Question Number : Yes  
Single Line Question Option : No Option Orientation : Vertical

Correct Marks : 1 Wrong Marks : 0.25

नीचे दिए गए प्रश्न में कुछ कथन और उनके बाद उन कथनों पर आधारित कुछ निष्कर्ष दिए गए हैं। दिए गए कथनों को सही माने, चाहे उनमें सामान्य ज्ञात तथ्यों से भिन्नता हो। सभी निष्कर्ष पढ़ें और फिर निर्धारित करें कि दिए गए कौन से निष्कर्ष, दिए गए कथनों के आधार पर युक्तिसंगत हैं।

कथन:

- I. कुछ मेज पेंसिल हैं।
- II. सभी पेंसिल कलम हैं।
- III. सभी मेज कप हैं।

निष्कर्ष:

- I. कुछ कप पेंसिल हैं।
- II. कुछ पेंसिल मेज हैं।
- III. सभी मेज कलम हैं।

Options :

1. ✖ केवल निष्कर्ष II अनुसरण करता है।
2. ✖ दोनों निष्कर्ष I तथा III अनुसरण करते हैं।
3. ✔ दोनों निष्कर्ष I तथा II अनुसरण करते हैं।
4. ✖ केवल निष्कर्ष III अनुसरण करता है।

Question Number : 20 Question Id : 5459275878 Question Type : MCQ Option Shuffling : Yes Display Question Number : Yes  
Single Line Question Option : No Option Orientation : Vertical

Correct Marks : 1 Wrong Marks : 0.25

In the following question, select the missing number from the given series.

0, 6, 24, 60, 120, ?

Options :

1. ✖ 200

2. ✘ 180

3. ✔ 210

4. ✘ 240

Question Number : 20 Question Id : 5459275878 Question Type : MCQ Option Shuffling : Yes Display Question Number : Yes  
Single Line Question Option : No Option Orientation : Vertical

Correct Marks : 1 Wrong Marks : 0.25

निम्नलिखित प्रश्न में दी गई श्रृंखला में से लुप्त अंक ज्ञात कीजिए।

0, 6, 24, 60, 120, ?

Options :

1. ✘ 200

2. ✘ 180

3. ✔ 210

4. ✘ 240

#### Mental Ability2

Group Number :	2
Group Id :	545927292
Group Maximum Duration :	0
Group Minimum Duration :	0
Revisit allowed for view? :	No
Revisit allowed for edit? :	No
Break time:	0
Group Marks:	20
Revisit allowed for group Instructions? :	Yes
Maximum Instruction Time:	0
Minimum Instruction Time:	0

#### Mental Ability2

Section Id :	545927292
Section Number :	1
Section type :	Online
Mandatory or Optional:	Mandatory
Number of Questions:	20
Number of Questions to be attempted:	20
Section Marks:	20
Display Number Panel:	Yes
Group All Questions:	No

Sub-Section Number:	1
Sub-Section Id:	545927350
Question Shuffling Allowed :	Yes

Question Number : 21 Question Id : 5459275879 Question Type : MCQ Option Shuffling : Yes Display Question Number : Yes  
Single Line Question Option : No Option Orientation : Vertical

Correct Marks : 1 Wrong Marks : 0.25

In the following question, select the missing number from the given series.

4, 9, 28, 113, 566, ?

Options :

1. ✓ 3397
2. ✗ 3693
3. ✗ 2367
4. ✗ 1827

Question Number : 21 Question Id : 5459275879 Question Type : MCQ Option Shuffling : Yes Display Question Number : Yes  
Single Line Question Option : No Option Orientation : Vertical

Correct Marks : 1 Wrong Marks : 0.25

निम्नलिखित प्रश्न में दी गई श्रृंखला में से लुप्त अंक ज्ञात कीजिए।

4, 9, 28, 113, 566, ?

Options :

1. ✓ 3397
2. ✗ 3693
3. ✗ 2367
4. ✗ 1827

Question Number : 22 Question Id : 5459275880 Question Type : MCQ Option Shuffling : Yes Display Question Number : Yes  
Single Line Question Option : No Option Orientation : Vertical

Correct Marks : 1 Wrong Marks : 0.25

In the following question, select the related number from the given alternatives.

3747 : 1739 :: 2858 : ?

Options :

1. ✗ 1064
2. ✓ 1624
3. ✗ 1824
4. ✗ 2784

Question Number : 22 Question Id : 5459275880 Question Type : MCQ Option Shuffling : Yes Display Question Number : Yes  
Single Line Question Option : No Option Orientation : Vertical

Correct Marks : 1 Wrong Marks : 0.25

निम्नलिखित प्रश्न में दिए गए विकल्पों में से संबंधित संख्या को चुनिए।

3747 : 1739 :: 2858 : ?

Options :

1. ✗ 1064
2. ✓ 1624
3. ✗ 1824
4. ✗ 2784

Question Number : 23 Question Id : 5459275881 Question Type : MCQ Option Shuffling : Yes Display Question Number : Yes  
Single Line Question Option : No Option Orientation : Vertical

Correct Marks : 1 Wrong Marks : 0.25

In the following question, select the related number from the given alternatives.

234 : 99 :: 345 : ?

Options :

1. ✘ 50
2. ✔ 216
3. ✘ 116
4. ✘ 263

Question Number : 23 Question Id : 5459275881 Question Type : MCQ Option Shuffling : Yes Display Question Number : Yes  
Single Line Question Option : No Option Orientation : Vertical

Correct Marks : 1 Wrong Marks : 0.25

निम्नलिखित प्रश्न में दिए गए विकल्पों में से संबंधित संख्या को चुनिए।

$$234 : 99 :: 345 : ?$$

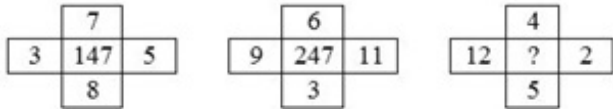
Options :

1. ✘ 50
2. ✔ 216
3. ✘ 116
4. ✘ 263

Question Number : 24 Question Id : 5459275882 Question Type : MCQ Option Shuffling : Yes Display Question Number : Yes  
Single Line Question Option : No Option Orientation : Vertical

Correct Marks : 1 Wrong Marks : 0.25

In the following question, select the number which can be placed at the sign of question mark (?) from the given alternatives.



Options :

1. ✘ 148
2. ✘ 163
3. ✔ 189
4. ✘ 255

Question Number : 24 Question Id : 5459275882 Question Type : MCQ Option Shuffling : Yes Display Question Number : Yes  
Single Line Question Option : No Option Orientation : Vertical

Correct Marks : 1 Wrong Marks : 0.25

निम्नलिखित प्रश्न में दिए गए विकल्पों में से प्रश्न चिन्ह (?) के स्थान पर आने वाली संख्या को चुनिए।



Options :

1. ✘ 148
2. ✘ 163
3. ✔ 189
4. ✘ 255

Question Number : 25 Question Id : 5459275883 Question Type : MCQ Option Shuffling : Yes Display Question Number : Yes  
Single Line Question Option : No Option Orientation : Vertical

Correct Marks : 1 Wrong Marks : 0.25

In the following question, select the number which can be placed at the sign of question mark (?) from the given alternatives.

30	25
17	395

40	31
15	425

50	35
19	?

Options :

- ✘ 725
- ✔ 615
- ✘ 675
- ✘ 585

Question Number : 25 Question Id : 5459275883 Question Type : MCQ Option Shuffling : Yes Display Question Number : Yes  
Single Line Question Option : No Option Orientation : Vertical

Correct Marks : 1 Wrong Marks : 0.25

निम्नलिखित प्रश्न में दिए गए विकल्पों में से प्रश्न चिन्ह (?) के स्थान पर आने वाली संख्या को चुनिए

30	25
17	395

40	31
15	425

50	35
19	?

Options :

- ✘ 725
- ✔ 615
- ✘ 675
- ✘ 585

Question Number : 26 Question Id : 5459275884 Question Type : MCQ Option Shuffling : Yes Display Question Number : Yes  
Single Line Question Option : No Option Orientation : Vertical

Correct Marks : 1 Wrong Marks : 0.25

In the following question, four number pairs are given. The number on left side of (-) is related to the number of the right side of (-) with some Logic/Rule/Relation. Three are similar on basis of the same Logic/Rule/Relation. Select the odd one out from the given alternatives.

Options :

- ✘ 25 - 150
- ✘ 112 - 120
- ✘ 38 - 550
- ✔ 125 - 350

Question Number : 26 Question Id : 5459275884 Question Type : MCQ Option Shuffling : Yes Display Question Number : Yes  
Single Line Question Option : No Option Orientation : Vertical

Correct Marks : 1 Wrong Marks : 0.25

नीचे दिए गए प्रश्न में, चार संख्या युग्म दिए गए हैं (-) के बायीं ओर दी गई संख्या (-) के दायीं ओर दी गई संख्या से किसी तर्क/नियम/संबंध से संबंधित है। तीन उसी एक तर्क/नियम/संबंध के आधार पर समान हैं। दिए गए विकल्पों में से विषम को चुनिए।

Options :

- ✘ 25 - 150
- ✘ 112 - 120
- ✘ 38 - 550
- ✔ 125 - 350

Question Number : 27 Question Id : 5459275885 Question Type : MCQ Option Shuffling : Yes Display Question Number : Yes  
Single Line Question Option : No Option Orientation : Vertical

Correct Marks : 1 Wrong Marks : 0.25

If 'W' means '×', 'X' means '÷', 'Y' means '-' and 'Z' means '+', then  $4W12Z7Y28X4Z2 = ?$

Options :

1. ✖ 46

2. ✔ 50

3. ✖ 56

4. ✖ 60

Question Number : 27 Question Id : 5459275885 Question Type : MCQ Option Shuffling : Yes Display Question Number : Yes  
Single Line Question Option : No Option Orientation : Vertical

Correct Marks : 1 Wrong Marks : 0.25

यदि 'W' का अर्थ '×', 'X' का अर्थ '÷', 'Y' का अर्थ '-' तथा 'Z' का अर्थ '+' हो, तो  $4W12Z7Y28X4Z2 = ?$

Options :

1. ✖ 46

2. ✔ 50

3. ✖ 56

4. ✖ 60

Question Number : 28 Question Id : 5459275886 Question Type : MCQ Option Shuffling : Yes Display Question Number : Yes  
Single Line Question Option : No Option Orientation : Vertical

Correct Marks : 1 Wrong Marks : 0.25

If  $A * B * B * C = A^2 + B^2 + C^2 + 2(AB + BC + CA)$ , then  $(3 * 4 * 7) = ?$

Options :

1. ✖ 138

2. ✖ 216

3. ✔ 196

4. ✖ 224

Question Number : 28 Question Id : 5459275886 Question Type : MCQ Option Shuffling : Yes Display Question Number : Yes  
Single Line Question Option : No Option Orientation : Vertical

Correct Marks : 1 Wrong Marks : 0.25

यदि  $A * B * B * C = A^2 + B^2 + C^2 + 2(AB + BC + CA)$  है, तो  $(3 * 4 * 7) = ?$

Options :

1. ✖ 138

2. ✖ 216

3. ✔ 196

4. ✖ 224

Question Number : 29 Question Id : 5459275887 Question Type : MCQ Option Shuffling : Yes Display Question Number : Yes  
Single Line Question Option : No Option Orientation : Vertical

Correct Marks : 1 Wrong Marks : 0.25

नीचे दिए गए प्रश्न में, चार संख्या युग्म दिए गए हैं (-) के बायीं ओर दी गई संख्या (-) के दायीं ओर दी गई संख्या से किसी तर्क/नियम/संबंध से संबंधित है। तीन उसी एक तर्क/नियम/संबंध के आधार पर समान हैं। दिए गए विकल्पों में से विषम को चुनिए।

Options :

1. ✖ 5768 - 1680

2. ✔ 7963 - 1136

3. ✖ 2894 - 576



4. ✘ 4761 - 168

Question Number : 29 Question Id : 5459275887 Question Type : MCQ Option Shuffling : Yes Display Question Number : Yes  
Single Line Question Option : No Option Orientation : Vertical

Correct Marks : 1 Wrong Marks : 0.25

In the following question, four number pairs are given. The number on left side of (-) is related to the number of the right side of (-) with some Logic/Rule/Relation. Three are similar on basis of the same Logic/Rule/Relation. Select the odd one out from the given alternatives.

Options :

1. ✘ 5768 - 1680

2. ✔ 7963 - 1136

3. ✘ 2894 - 576

4. ✘ 4761 - 168

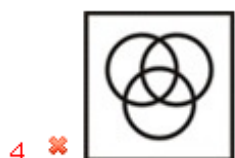
Question Number : 30 Question Id : 5459275888 Question Type : MCQ Option Shuffling : Yes Display Question Number : Yes  
Single Line Question Option : No Option Orientation : Vertical

Correct Marks : 1 Wrong Marks : 0.25

Identify the diagram that best represents the relationship among the given classes.

Machine, Mobile, Car

Options :



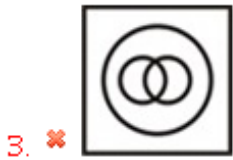
Question Number : 30 Question Id : 5459275888 Question Type : MCQ Option Shuffling : Yes Display Question Number : Yes  
Single Line Question Option : No Option Orientation : Vertical

Correct Marks : 1 Wrong Marks : 0.25

वह आरेख चुनिए जो नीचे दिए गए वर्गों के बीच के संबंध का सही निरूपण करता है।

मशीन, मोबाईल, गाड़ी

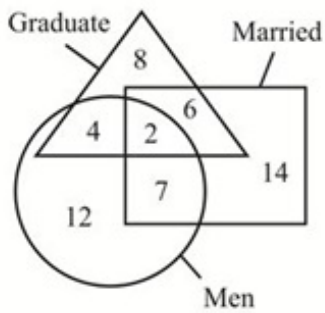
Options :



Question Number : 31 Question Id : 5459275889 Question Type : MCQ Option Shuffling : Yes Display Question Number : Yes  
Single Line Question Option : No Option Orientation : Vertical

Correct Marks : 1 Wrong Marks : 0.25

In the given figure, how many men are graduates but not married?



Options :

1. ✗ 6

2. ✗ 7

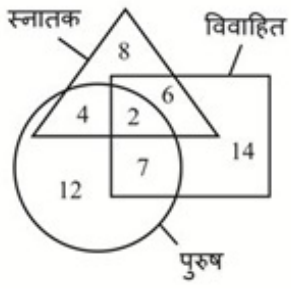
3. ✓ 4

4. ✗ 2

Question Number : 31 Question Id : 5459275889 Question Type : MCQ Option Shuffling : Yes Display Question Number : Yes  
Single Line Question Option : No Option Orientation : Vertical

Correct Marks : 1 Wrong Marks : 0.25

दी गई आकृति में कितने पुरुष स्नातक हैं, लेकिन विवाहित नहीं हैं?



Options :

1. ✘ 6
2. ✘ 7
3. ✔ 4
4. ✘ 2

Question Number : 32 Question Id : 5459275890 Question Type : MCQ Option Shuffling : Yes Display Question Number : Yes Single Line Question Option : No Option Orientation : Vertical

Correct Marks : 1 Wrong Marks : 0.25

A child going towards south direction firstly turns towards the right and then turns towards the left. In which direction is he going now?

Options :

1. ✔ South
2. ✘ North
3. ✘ West
4. ✘ East

Question Number : 32 Question Id : 5459275890 Question Type : MCQ Option Shuffling : Yes Display Question Number : Yes Single Line Question Option : No Option Orientation : Vertical

Correct Marks : 1 Wrong Marks : 0.25

दक्षिण दिशा की ओर जा रहा एक बच्चा पहले दाईं ओर मुड़ता है तथा फिर बाईं ओर मुड़ता है। वह अब किस दिशा में जा रहा है?

Options :

1. ✔ दक्षिण
2. ✘ उत्तर
3. ✘ पश्चिम
4. ✘ पूर्व

Question Number : 33 Question Id : 5459275891 Question Type : MCQ Option Shuffling : Yes Display Question Number : Yes Single Line Question Option : No Option Orientation : Vertical

Correct Marks : 1 Wrong Marks : 0.25

Sajjan goes 6 km towards east from a certain point. Then he goes 2 km more after turning to right. Now he again turns right and goes 3 km. In the end he goes 2 km after turning to left. How far (straight line distance) and in which direction is he now from that certain point?

Options :

1. ✘ 5 km, South-west
2. ✘ 6 km, North-east
3. ✘ 4 km, South
4. ✔ 5 km, South-east

Question Number : 33 Question Id : 5459275891 Question Type : MCQ Option Shuffling : Yes Display Question Number : Yes  
Single Line Question Option : No Option Orientation : Vertical

Correct Marks : 1 Wrong Marks : 0.25

सञ्जन एक निश्चित बिंदु से 6 किमी पूर्व की ओर जाता है फिर वह दाईं ओर मुड़ने के बाद 2 कि.मी. और जाता है वह पुनः दायीं ओर मुड़ता है तथा 3 कि.मी. जाता है अंत में वह बाईं ओर मुड़ने के बाद 2 कि.मी. जाता है वह उस निश्चित बिंदु से कितनी दूर (सीधी रेखा दूरी) और किस दिशा में है?

Options :

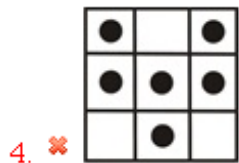
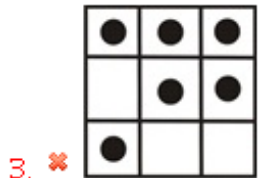
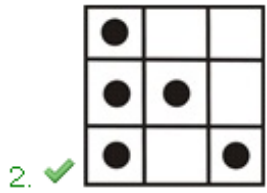
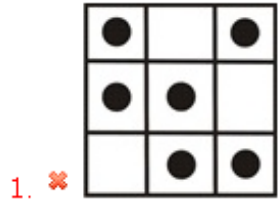
1. ✘ 5 कि.मी., दक्षिण-पश्चिम
2. ✘ 6 कि.मी., उत्तर-पूर्व
3. ✘ 4 कि.मी., दक्षिण
4. ✔ 5 कि.मी., दक्षिण-पूर्व

Question Number : 34 Question Id : 5459275892 Question Type : MCQ Option Shuffling : Yes Display Question Number : Yes  
Single Line Question Option : No Option Orientation : Vertical

Correct Marks : 1 Wrong Marks : 0.25

In the following question, select the odd figure from the given alternatives.

Options :

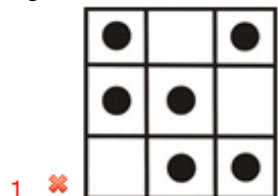


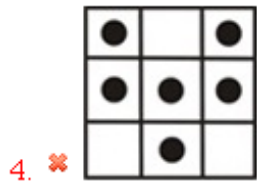
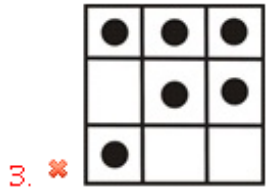
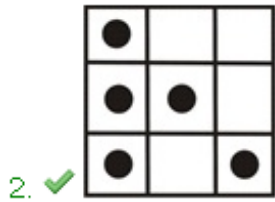
Question Number : 34 Question Id : 5459275892 Question Type : MCQ Option Shuffling : Yes Display Question Number : Yes  
Single Line Question Option : No Option Orientation : Vertical

Correct Marks : 1 Wrong Marks : 0.25

निम्नलिखित प्रश्न में, दिए गए विकल्पों में से विषम आकृति को चुनिए।

Options :






Question Number : 35 Question Id : 5459275893 Question Type : MCQ Option Shuffling : Yes Display Question Number : Yes  
 Single Line Question Option : No Option Orientation : Vertical

Correct Marks : 1 Wrong Marks : 0.25

Which answer figure will complete the pattern in the question figure?




Options :



Question Number : 35 Question Id : 5459275893 Question Type : MCQ Option Shuffling : Yes Display Question Number : Yes  
 Single Line Question Option : No Option Orientation : Vertical

Correct Marks : 1 Wrong Marks : 0.25

कौन सी उत्तर आकृति प्रश्न आकृति के प्रतिरूप को पूरा करेगी?



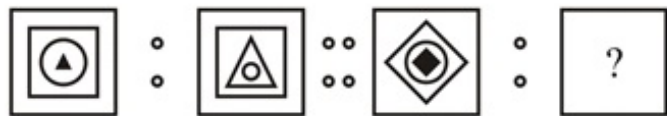
Options :



Question Number : 36 Question Id : 5459275894 Question Type : MCQ Option Shuffling : Yes Display Question Number : Yes  
 Single Line Question Option : No Option Orientation : Vertical

Correct Marks : 1 Wrong Marks : 0.25

Two figures given on the left side of (::) are related with some logic/rule/relation. Select the missing figure on the right of (::) from the given alternatives based on the same logic/rule/relation.



Options :

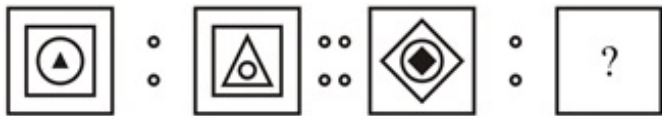




Question Number : 36 Question Id : 5459275894 Question Type : MCQ Option Shuffling : Yes Display Question Number : Yes  
Single Line Question Option : No Option Orientation : Vertical

Correct Marks : 1 Wrong Marks : 0.25

(:) के बायीं ओर दी गयी दो आकृतियाँ किसी तर्क/नियम/संबंध से संबंधित हैं। दिये गये विकल्पों में से (:) के दायीं ओर समान तर्क/नियम/संबंध पर आधारित लुप्त आकृति को चुनिये।



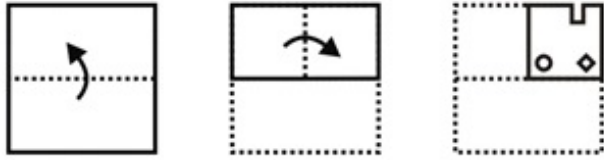
Options :



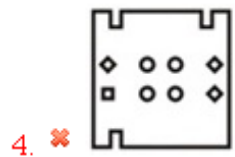
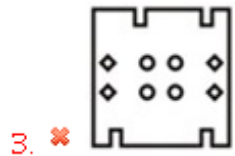
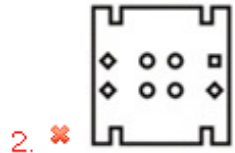
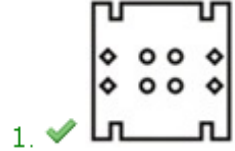
Question Number : 37 Question Id : 5459275895 Question Type : MCQ Option Shuffling : Yes Display Question Number : Yes  
Single Line Question Option : No Option Orientation : Vertical

Correct Marks : 1 Wrong Marks : 0.25

A piece of paper is folded and punched as shown below in the question figures. From the given answer figures, indicate how it will appear when opened?



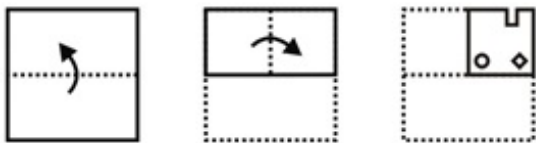
Options :



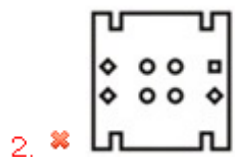
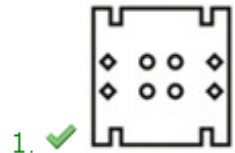
Question Number : 37 Question Id : 5459275895 Question Type : MCQ Option Shuffling : Yes Display Question Number : Yes Single Line Question Option : No Option Orientation : Vertical

Correct Marks : 1 Wrong Marks : 0.25

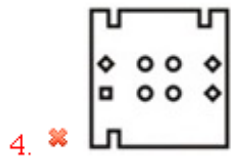
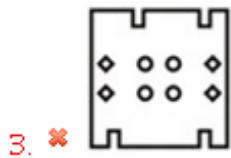
नीचे के प्रश्न आकृतियों में दिखाए अनुसार कागज को मोड़कर छेदने तथा खोलने के बाद वह किस उत्तर आकृति जैसा दिखाई देगा?



Options :



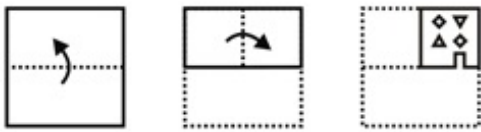




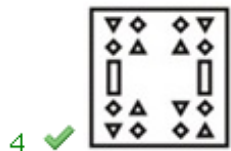
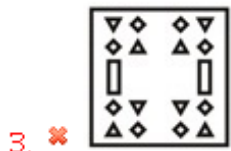
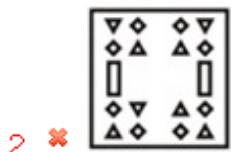
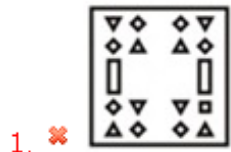
Question Number : 38 Question Id : 5459275896 Question Type : MCQ Option Shuffling : Yes Display Question Number : Yes  
Single Line Question Option : No Option Orientation : Vertical

Correct Marks : 1 Wrong Marks : 0.25

A piece of paper is folded and punched as shown below in the question figures. From the given answer figures, indicate how it will appear when opened?



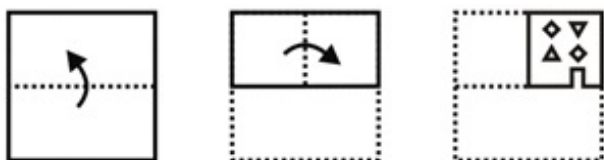
Options :



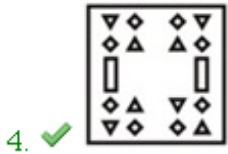
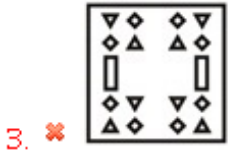
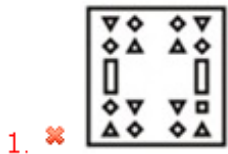
Question Number : 38 Question Id : 5459275896 Question Type : MCQ Option Shuffling : Yes Display Question Number : Yes  
Single Line Question Option : No Option Orientation : Vertical

Correct Marks : 1 Wrong Marks : 0.25

नीचे के प्रश्न आकृतियों में दिखाए अनुसार कागज को मोड़कर छेदने तथा खोलने के बाद वह किस उत्तर आकृति जैसा दिखाई देगा?



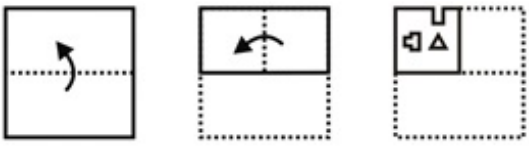
Options :



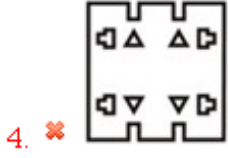
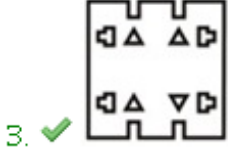
Question Number : 39 Question Id : 5459275897 Question Type : MCQ Option Shuffling : Yes Display Question Number : Yes Single Line Question Option : No Option Orientation : Vertical

Correct Marks : 1 Wrong Marks : 0.25

A piece of paper is folded and punched as shown below in the question figures. From the given answer figures, indicate how it will appear when opened?



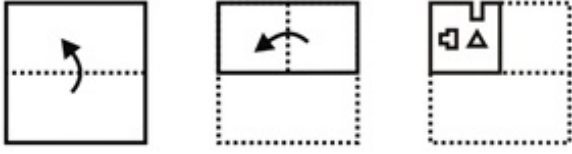
Options :



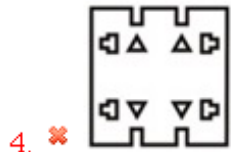
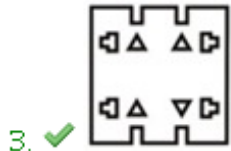
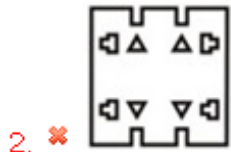
Question Number : 39 Question Id : 5459275897 Question Type : MCQ Option Shuffling : Yes Display Question Number : Yes  
 Single Line Question Option : No Option Orientation : Vertical

Correct Marks : 1 Wrong Marks : 0.25

नीचे के प्रश्न आकृतियों में दिखाए अनुसार कागज को मोड़कर छेदने तथा खोलने के बाद वह किस उत्तर आकृति जैसा दिखाई देगा?



Options :



Question Number : 40 Question Id : 5459275898 Question Type : MCQ Option Shuffling : Yes Display Question Number : Yes  
 Single Line Question Option : No Option Orientation : Vertical

Correct Marks : 1 Wrong Marks : 0.25

64 small cubes of same size are combined together to make a solid cube. All the faces of this solid cube are coloured red. How many small cubes will have at least one face coloured red?

Options :

1. ✘ 62

2. ✘ 60

3. ✘ 54

4. ✔ 56

Question Number : 40 Question Id : 5459275898 Question Type : MCQ Option Shuffling : Yes Display Question Number : Yes  
 Single Line Question Option : No Option Orientation : Vertical

Correct Marks : 1 Wrong Marks : 0.25

समान आकार के 64 छोटे घनों को साथ में जोड़कर एक ठोस घन बनाया गया है। इस ठोस घन की सभी फलकों को लाल रंग से रंगा गया है। कितने छोटे घनों की कम से कम एक फलक लाल रंग से रंगी गयी है?

Options :

1. ✘ 62

2. ✘ 60

3. ✘ 54

4. ✓ 56

### General Awareness1

Group Number :	3
Group Id :	545927293
Group Maximum Duration :	0
Group Minimum Duration :	0
Revisit allowed for view? :	No
Revisit allowed for edit? :	No
Break time:	0
Group Marks:	20
Revisit allowed for group Instructions? :	Yes
Maximum Instruction Time:	0
Minimum Instruction Time:	0

### General Awareness1

Section Id :	545927293
Section Number :	1
Section type :	Online
Mandatory or Optional:	Mandatory
Number of Questions:	20
Number of Questions to be attempted:	20
Section Marks:	20
Display Number Panel:	Yes
Group All Questions:	No

Sub-Section Number:	1
Sub-Section Id:	545927351
Question Shuffling Allowed :	Yes

Question Number : 41 Question Id : 5459275899 Question Type : MCQ Option Shuffling : Yes Display Question Number : Yes  
Single Line Question Option : No Option Orientation : Vertical

Correct Marks : 1 Wrong Marks : 0.25

Which dance form is performed in Punjab?

Options :

- ✘ Charkula
- ✘ Mayur Nritya
- ✓ Giddha
- ✘ Grida

Question Number : 41 Question Id : 5459275899 Question Type : MCQ Option Shuffling : Yes Display Question Number : Yes  
Single Line Question Option : No Option Orientation : Vertical

Correct Marks : 1 Wrong Marks : 0.25

पंजाब में कौन सा नृत्य किया जाता है?

Options :

- ✘ चरकुला
- ✘ मयूर नृत्य

3. ✓ गिद्धा

4. ✗ गिडा

Question Number : 42 Question Id : 5459275900 Question Type : MCQ Option Shuffling : Yes Display Question Number : Yes  
Single Line Question Option : No Option Orientation : Vertical

Correct Marks : 1 Wrong Marks : 0.25

Who among the following is a tabla player?

I. Ustad Alia Rekha Khan

II. Samata Prasad

III. Zakir Hussain

Options :

1. ✗ Only I

2. ✗ Only II

3. ✗ I and III

4. ✓ I, II and III

Question Number : 42 Question Id : 5459275900 Question Type : MCQ Option Shuffling : Yes Display Question Number : Yes  
Single Line Question Option : No Option Orientation : Vertical

Correct Marks : 1 Wrong Marks : 0.25

निम्नलिखित में से कौन सा तबला वादक है?

I. उस्ताद आलिया रखा खान

II. समता प्रसाद

III. ज़ाकिर हुसैन

Options :

1. ✗ केवल I

2. ✗ केवल II

3. ✗ I तथा III

4. ✓ I, II तथा III

Question Number : 43 Question Id : 5459275901 Question Type : MCQ Option Shuffling : Yes Display Question Number : Yes  
Single Line Question Option : No Option Orientation : Vertical

Correct Marks : 1 Wrong Marks : 0.25

Sonal Mansingh is associated with which dance form?

Options :

1. ✗ Mohiniattam

2. ✗ Kuchipudi

3. ✓ Bharatnatyam

4. ✗ Kathakali

Question Number : 43 Question Id : 5459275901 Question Type : MCQ Option Shuffling : Yes Display Question Number : Yes  
Single Line Question Option : No Option Orientation : Vertical

Correct Marks : 1 Wrong Marks : 0.25

सोनल मानसिंह किस नृत्य रूप से जुडी है?

Options :

1. ✗ मोहिनीअट्टम

2. ✗ कुचिपुडी

3. ✓ भरतनाट्यम

4. ✗ कथकली

Question Number : 44 Question Id : 5459275902 Question Type : MCQ Option Shuffling : Yes Display Question Number : Yes  
Single Line Question Option : No Option Orientation : Vertical

Correct Marks : 1 Wrong Marks : 0.25

Doul festival is holi of \_\_\_\_\_.

Options :

1. ✘ Rajasthan
2. ✘ Jammu and Kashmir
3. ✘ Meghalaya
4. ✔ Assam

Question Number : 44 Question Id : 5459275902 Question Type : MCQ Option Shuffling : Yes Display Question Number : Yes  
Single Line Question Option : No Option Orientation : Vertical

Correct Marks : 1 Wrong Marks : 0.25

डौल त्योहार \_\_\_\_\_ की होली है।

Options :

1. ✘ राजस्थान
2. ✘ जम्मू और कश्मीर
3. ✘ मेघालय
4. ✔ असम

Question Number : 45 Question Id : 5459275903 Question Type : MCQ Option Shuffling : Yes Display Question Number : Yes  
Single Line Question Option : No Option Orientation : Vertical

Correct Marks : 1 Wrong Marks : 0.25

Which are the two types of taxes that come under Tax Revenue?

Options :

1. ✔ Direct and Indirect Tax
2. ✘ Important and Unimportant Tax
3. ✘ Static and dynamic Tax
4. ✘ Upper and lower

Question Number : 45 Question Id : 5459275903 Question Type : MCQ Option Shuffling : Yes Display Question Number : Yes  
Single Line Question Option : No Option Orientation : Vertical

Correct Marks : 1 Wrong Marks : 0.25

कर राजस्व के तहत आने वाले दो तरह के कर कौन से हैं?

Options :

1. ✔ प्रत्यक्ष और अप्रत्यक्ष कर
2. ✘ महत्वपूर्ण और महत्वहीन कर
3. ✘ स्थिर और गतिशील कर
4. ✘ ऊपरी तथा नीचले

Question Number : 46 Question Id : 5459275904 Question Type : MCQ Option Shuffling : Yes Display Question Number : Yes  
Single Line Question Option : No Option Orientation : Vertical

Correct Marks : 1 Wrong Marks : 0.25

मौद्रिक प्राधिकरण, भारतीय रिज़र्व बैंक की कुल देयता को \_\_\_\_\_ कहा जाता है।

Options :

1. ✔ आधारभूत धन
2. ✘ देयता अनुपात
3. ✘ वैध निविदाएं

4. ✘ देयता बीमा दर

Question Number : 46 Question Id : 5459275904 Question Type : MCQ Option Shuffling : Yes Display Question Number : Yes  
Single Line Question Option : No Option Orientation : Vertical

Correct Marks : 1 Wrong Marks : 0.25

The total liability of the monetary authority, Reserve Bank of India is called \_\_\_\_\_.

Options :

1. ✔ high powered money
2. ✘ liability Ratio
3. ✘ legal tendersTax
4. ✘ liability Insurance Rate

Question Number : 47 Question Id : 5459275905 Question Type : MCQ Option Shuffling : Yes Display Question Number : Yes  
Single Line Question Option : No Option Orientation : Vertical

Correct Marks : 1 Wrong Marks : 0.25

\_\_\_\_\_ purchases/sells government securities to the general public in a bid to increase/decrease the stock of high powered money in economy.

Options :

1. ✘ State Bank
2. ✘ Rural Banks
3. ✔ Reserve Bank of India
4. ✘ Small Banks

Question Number : 47 Question Id : 5459275905 Question Type : MCQ Option Shuffling : Yes Display Question Number : Yes  
Single Line Question Option : No Option Orientation : Vertical

Correct Marks : 1 Wrong Marks : 0.25

\_\_\_\_\_ अर्थव्यवस्था में आधारभूत धन के स्टॉक को बढ़ाने/घटाने के लिए आम जनता को/से सरकारी प्रतिभूतियों की खरीद/बिक्री करता है/करते हैं।

Options :

1. ✘ स्टेट बैंक
2. ✘ ग्रामीण बैंक
3. ✔ भारतीय रिज़र्व बैंक
4. ✘ छोटे बैंक

Question Number : 48 Question Id : 5459275906 Question Type : MCQ Option Shuffling : Yes Display Question Number : Yes  
Single Line Question Option : No Option Orientation : Vertical

Correct Marks : 1 Wrong Marks : 0.25

On dissolving magnesium ribbon in water, it forms a new substance. Identify it from the following options.

Options :

1. ✘ MgO
2. ✔ Mg(OH)<sub>2</sub>
3. ✘ Mg(CO)<sub>3</sub>
4. ✘ MgO<sub>2</sub>

Question Number : 48 Question Id : 5459275906 Question Type : MCQ Option Shuffling : Yes Display Question Number : Yes  
Single Line Question Option : No Option Orientation : Vertical

Correct Marks : 1 Wrong Marks : 0.25

मैग्नीशियम रिबन को पानी में घोलने पर यह एक नया पदार्थ बनाता है। उसे निम्न विकल्पों में से पहचानो

Options :

1. ✘ MgO

2. ✓  $\text{Mg(OH)}_2$
3. ✗  $\text{Mg(CO)}_3$
4. ✗  $\text{MgO}_2$

Question Number : 49 Question Id : 5459275907 Question Type : MCQ Option Shuffling : Yes Display Question Number : Yes  
Single Line Question Option : No Option Orientation : Vertical

Correct Marks : 1 Wrong Marks : 0.25

When an acid solution is mixed with a base solution, what is its effect on temperature?

Options :

1. ✗ Rapidly decreases
2. ✗ Decreases
3. ✓ Increases
4. ✗ No change

Question Number : 49 Question Id : 5459275907 Question Type : MCQ Option Shuffling : Yes Display Question Number : Yes  
Single Line Question Option : No Option Orientation : Vertical

Correct Marks : 1 Wrong Marks : 0.25

जब अम्ल विलयन को क्षारक विलयन के साथ मिलाया जाता है, तो अभिक्रिया के तापमान पर क्या प्रभाव पड़ता है?

Options :

1. ✗ तेजी से घटता है
2. ✗ घटता है
3. ✓ बढ़ता है
4. ✗ कोई परिवर्तन नहीं

Question Number : 50 Question Id : 5459275908 Question Type : MCQ Option Shuffling : Yes Display Question Number : Yes  
Single Line Question Option : No Option Orientation : Vertical

Correct Marks : 1 Wrong Marks : 0.25

The most important discovery in transportation was the invention of \_\_\_\_\_.

Options :

1. ✗ Bullock cart
2. ✓ Wheel
3. ✗ Steam engine
4. ✗ Train

Question Number : 50 Question Id : 5459275908 Question Type : MCQ Option Shuffling : Yes Display Question Number : Yes  
Single Line Question Option : No Option Orientation : Vertical

Correct Marks : 1 Wrong Marks : 0.25

परिवहन में सबसे महत्वपूर्ण खोज \_\_\_\_\_ का आविष्कार थी।

Options :

1. ✗ बैल गाड़ी
2. ✓ पहिये
3. ✗ भाप का इंजन
4. ✗ रेलगाड़ी

Question Number : 51 Question Id : 5459275909 Question Type : MCQ Option Shuffling : Yes Display Question Number : Yes  
Single Line Question Option : No Option Orientation : Vertical

Correct Marks : 1 Wrong Marks : 0.25

Which of the following is NOT an example of periodic motion?



Options :

- ✘ Needle of a sewing machine
- ✘ A swinging pendulum
- ✔ A rolling ball
- ✘ Strings of a guitar

Question Number : 51 Question Id : 5459275909 Question Type : MCQ Option Shuffling : Yes Display Question Number : Yes  
Single Line Question Option : No Option Orientation : Vertical

Correct Marks : 1 Wrong Marks : 0.25

निम्नलिखित में से कौन सा आवर्ती गति का उदाहरण नहीं है?

Options :

- ✘ सिलाई मशीन की सुई
- ✘ एक झूलता लोलक
- ✔ एक लुढ़कती गेंद
- ✘ गिटार की तार

Question Number : 52 Question Id : 5459275910 Question Type : MCQ Option Shuffling : Yes Display Question Number : Yes  
Single Line Question Option : No Option Orientation : Vertical

Correct Marks : 1 Wrong Marks : 0.25

Which part of a flower is converted into seed?

Options :

- ✘ Pistil
- ✘ Pollen grain
- ✔ Ovule
- ✘ Stigma

Question Number : 52 Question Id : 5459275910 Question Type : MCQ Option Shuffling : Yes Display Question Number : Yes  
Single Line Question Option : No Option Orientation : Vertical

Correct Marks : 1 Wrong Marks : 0.25

फूल का कौन सा हिस्सा बीज में बदलता है?

Options :

- ✘ अंडप
- ✘ परागकण
- ✔ अंडाशय
- ✘ वर्तिकाग्र

Question Number : 53 Question Id : 5459275911 Question Type : MCQ Option Shuffling : Yes Display Question Number : Yes  
Single Line Question Option : No Option Orientation : Vertical

Correct Marks : 1 Wrong Marks : 0.25

Which cell organelle are the waste disposal system of the cell?

Options :

- ✘ Golgi apparatus
- ✘ Mitochondria
- ✘ Plastids
- ✔ Lysosomes

Question Number : 53 Question Id : 5459275911 Question Type : MCQ Option Shuffling : Yes Display Question Number : Yes  
Single Line Question Option : No Option Orientation : Vertical

Correct Marks : 1 Wrong Marks : 0.25

कौन से कोषिका घटक कोषिका का अपशिष्ट पदार्थ निकासन तंत्र है?

Options :

1. ✘ गॉल्जी उपकरण
2. ✘ माइटोकॉन्ड्रिया
3. ✘ प्लैस्टिड
4. ✔ लाइसोसोम

Question Number : 54 Question Id : 5459275912 Question Type : MCQ Option Shuffling : Yes Display Question Number : Yes  
Single Line Question Option : No Option Orientation : Vertical

Correct Marks : 1 Wrong Marks : 0.25

Which of the following organisms breathe through skin only?

Options :

1. ✘ Cockroach
2. ✔ Earthworm
3. ✘ Frogs
4. ✘ Fishes

Question Number : 54 Question Id : 5459275912 Question Type : MCQ Option Shuffling : Yes Display Question Number : Yes  
Single Line Question Option : No Option Orientation : Vertical

Correct Marks : 1 Wrong Marks : 0.25

निम्नलिखित में से कौन सा जीव केवल खाल/त्वचा से सांस लेता है?

Options :

1. ✘ कॉकरोच
2. ✔ केंचुआ
3. ✘ मेंढक
4. ✘ मछली

Question Number : 55 Question Id : 5459275913 Question Type : MCQ Option Shuffling : Yes Display Question Number : Yes  
Single Line Question Option : No Option Orientation : Vertical

Correct Marks : 1 Wrong Marks : 0.25

Which tissues in human body store fat?

Options :

1. ✘ Epithelial tissue
2. ✘ Areolar tissue
3. ✘ Cartilage tissue
4. ✔ Adipose tissue

Question Number : 55 Question Id : 5459275913 Question Type : MCQ Option Shuffling : Yes Display Question Number : Yes  
Single Line Question Option : No Option Orientation : Vertical

Correct Marks : 1 Wrong Marks : 0.25

मानव शरीर का कौन सा ऊतक वसा को संचित करता है?

Options :

1. ✘ उपकला ऊतक
2. ✘ एरिओलर ऊतक
3. ✘ उपास्थि ऊतक
4. ✔ वसामय ऊतक

Question Number : 56 Question Id : 5459275914 Question Type : MCQ Option Shuffling : Yes Display Question Number : Yes  
Single Line Question Option : No Option Orientation : Vertical

Correct Marks : 1 Wrong Marks : 0.25

River Kasi flows through which of the following states?

Options :

- ✘ Madhya Pradesh
- ✘ Maharashtra
- ✔ Bihar
- ✘ Rajasthan

Question Number : 56 Question Id : 5459275914 Question Type : MCQ Option Shuffling : Yes Display Question Number : Yes  
Single Line Question Option : No Option Orientation : Vertical

Correct Marks : 1 Wrong Marks : 0.25

कासी नदी निम्न में से किस राज्य से होकर बहती है?

Options :

- ✘ मध्य प्रदेश
- ✘ महाराष्ट्र
- ✔ बिहार
- ✘ राजस्थान

Question Number : 57 Question Id : 5459275915 Question Type : MCQ Option Shuffling : Yes Display Question Number : Yes  
Single Line Question Option : No Option Orientation : Vertical

Correct Marks : 1 Wrong Marks : 0.25

What are the two types of ocean currents?

- I. Warm ocean currents
- II. Cold ocean currents

Options :

- ✘ Only I
- ✘ Only II
- ✔ Both I and II
- ✘ Neither I nor II

Question Number : 57 Question Id : 5459275915 Question Type : MCQ Option Shuffling : Yes Display Question Number : Yes  
Single Line Question Option : No Option Orientation : Vertical

Correct Marks : 1 Wrong Marks : 0.25

महासागरीय धाराएं किन दो प्रकार की होती हैं?

- I. कोष्ण समुद्र धारा
- II. शीतल समुद्र धारा

Options :

- ✘ केवल I
- ✘ केवल II
- ✔ I तथा II दोनों
- ✘ ना तो I ना तो II

Question Number : 58 Question Id : 5459275916 Question Type : MCQ Option Shuffling : Yes Display Question Number : Yes  
Single Line Question Option : No Option Orientation : Vertical

Correct Marks : 1 Wrong Marks : 0.25

In which type of farming private corporations are engaged in processing /marketing of agriculture products?

Options :

- ✘ Subsistence farming

2. ✓ Contract farming
3. ✗ Intensive farming
4. ✗ Slash and burn farming

Question Number : 58 Question Id : 5459275916 Question Type : MCQ Option Shuffling : Yes Display Question Number : Yes  
Single Line Question Option : No Option Orientation : Vertical

Correct Marks : 1 Wrong Marks : 0.25

किस प्रकार की खेती में निजी निगम कृषि उत्पादों के प्रसंस्करण/विपणन में शामिल होते हैं?

Options :

1. ✗ जीविका खेती
2. ✓ अनुबंध खेती
3. ✗ गहन खेती
4. ✗ कारना तथा जलाना खेती

Question Number : 59 Question Id : 5459275917 Question Type : MCQ Option Shuffling : Yes Display Question Number : Yes  
Single Line Question Option : No Option Orientation : Vertical

Correct Marks : 1 Wrong Marks : 0.25

Laterite soil can be found in which of the following states?

- I. Karnataka
- II. Tamil Nadu
- III. Jharkhand

Options :

1. ✗ I and II
2. ✗ II and III
3. ✗ I and III
4. ✓ I, II and III

Question Number : 59 Question Id : 5459275917 Question Type : MCQ Option Shuffling : Yes Display Question Number : Yes  
Single Line Question Option : No Option Orientation : Vertical

Correct Marks : 1 Wrong Marks : 0.25

लेटराइट मिट्टी निम्नलिखित में से किस राज्य में पाई जा सकती है?

- I. कर्नाटक
- II. तमिलनाडु
- III. झारखंड

Options :

1. ✗ I तथा II
2. ✗ II तथा III
3. ✗ I तथा III
4. ✓ I, II तथा III

Question Number : 60 Question Id : 5459275918 Question Type : MCQ Option Shuffling : Yes Display Question Number : Yes  
Single Line Question Option : No Option Orientation : Vertical

Correct Marks : 1 Wrong Marks : 0.25

Kanchenjunga is located in which state?

Options :

1. ✗ Tripura
2. ✗ Mizoram
3. ✓ Sikkim

#### 4. ✖ Meghalaya

Question Number : 60 Question Id : 5459275918 Question Type : MCQ Option Shuffling : Yes Display Question Number : Yes  
Single Line Question Option : No Option Orientation : Vertical

Correct Marks : 1 Wrong Marks : 0.25

कंचनजंगा किस राज्य में स्थित है?

Options :

1. ✖ त्रिपुरा
2. ✖ मिजोरम
3. ✔ सिक्किम
4. ✖ मेघालय

#### General Awareness2

Group Number :	4
Group Id :	545927294
Group Maximum Duration :	0
Group Minimum Duration :	0
Revisit allowed for view? :	No
Revisit allowed for edit? :	No
Break time:	0
Group Marks:	20
Revisit allowed for group Instructions? :	Yes
Maximum Instruction Time:	0
Minimum Instruction Time:	0

#### General Awareness2

Section Id :	545927294
Section Number :	1
Section type :	Online
Mandatory or Optional:	Mandatory
Number of Questions:	20
Number of Questions to be attempted:	20
Section Marks:	20
Display Number Panel:	Yes
Group All Questions:	No

Sub-Section Number:	1
Sub-Section Id:	545927352
Question Shuffling Allowed :	Yes

Question Number : 61 Question Id : 5459275919 Question Type : MCQ Option Shuffling : Yes Display Question Number : Yes  
Single Line Question Option : No Option Orientation : Vertical

Correct Marks : 1 Wrong Marks : 0.25

Which of the following river does not flow in India?

Options :

1. ✔ Mekong
2. ✖ Krishna

3. ✘ Luni
4. ✘ Mahanadi

Question Number : 61 Question Id : 5459275919 Question Type : MCQ Option Shuffling : Yes Display Question Number : Yes  
Single Line Question Option : No Option Orientation : Vertical

Correct Marks : 1 Wrong Marks : 0.25

निम्न में से कौन सी नदी भारत में नहीं बहती है?

Options :

1. ✔ मेकांग
2. ✘ कृष्णा
3. ✘ लूनी
4. ✘ महानदी

Question Number : 62 Question Id : 5459275920 Question Type : MCQ Option Shuffling : Yes Display Question Number : Yes  
Single Line Question Option : No Option Orientation : Vertical

Correct Marks : 1 Wrong Marks : 0.25

Which of the following king was influenced by the teachings of Buddha?

Options :

1. ✔ Ashoka
2. ✘ Bindusara
3. ✘ Bimbisara
4. ✘ Chandragupta

Question Number : 62 Question Id : 5459275920 Question Type : MCQ Option Shuffling : Yes Display Question Number : Yes  
Single Line Question Option : No Option Orientation : Vertical

Correct Marks : 1 Wrong Marks : 0.25

निम्नलिखित में से कौन सा राजा बुद्ध की शिक्षाओं से प्रभावित हुआ था?

Options :

1. ✔ अशोक
2. ✘ बिन्दुसार
3. ✘ बिम्बिसार
4. ✘ चंद्रगुप्त

Question Number : 63 Question Id : 5459275921 Question Type : MCQ Option Shuffling : Yes Display Question Number : Yes  
Single Line Question Option : No Option Orientation : Vertical

Correct Marks : 1 Wrong Marks : 0.25

The Dandi March started from \_\_\_\_\_ and ended in Dandi.

Options :

1. ✘ Surat
2. ✘ Vadodara
3. ✔ Sabarmati
4. ✘ Gandhinagar

Question Number : 63 Question Id : 5459275921 Question Type : MCQ Option Shuffling : Yes Display Question Number : Yes  
Single Line Question Option : No Option Orientation : Vertical

Correct Marks : 1 Wrong Marks : 0.25

दांडी यात्रा \_\_\_\_\_ से शुरू हुआ और दांडी में समाप्त हुआ।

Options :

1. ✘ सूरत

2. ✘ वडोदरा
3. ✔ साबरमती
4. ✘ गांधीनगर

Question Number : 64 Question Id : 5459275922 Question Type : MCQ Option Shuffling : Yes Display Question Number : Yes  
Single Line Question Option : No Option Orientation : Vertical

Correct Marks : 1 Wrong Marks : 0.25

Poona Pact was signed in which year?

Options :

1. ✘ 1951
2. ✔ 1932
3. ✘ 1942
4. ✘ 1952

Question Number : 64 Question Id : 5459275922 Question Type : MCQ Option Shuffling : Yes Display Question Number : Yes  
Single Line Question Option : No Option Orientation : Vertical

Correct Marks : 1 Wrong Marks : 0.25

पूना पैक्ट किस वर्ष में हस्ताक्षरित किया गया था?

Options :

1. ✘ 1951
2. ✔ 1932
3. ✘ 1942
4. ✘ 1952

Question Number : 65 Question Id : 5459275923 Question Type : MCQ Option Shuffling : Yes Display Question Number : Yes  
Single Line Question Option : No Option Orientation : Vertical

Correct Marks : 1 Wrong Marks : 0.25

Which of the following ruler commissioned the construction of Red Fort in Delhi?

Options :

1. ✘ Mir Qasim
2. ✘ Qutbuddin Aibak
3. ✘ Jahangir
4. ✔ Shah Jahan

Question Number : 65 Question Id : 5459275923 Question Type : MCQ Option Shuffling : Yes Display Question Number : Yes  
Single Line Question Option : No Option Orientation : Vertical

Correct Marks : 1 Wrong Marks : 0.25

निम्नलिखित में से किस शासक ने दिल्ली में लाल किले के निर्माण का काम शुरू करवाया था?

Options :

1. ✘ मीर कासिम
2. ✘ कुतुबुद्दीन ऐबक
3. ✘ जहांगीर
4. ✔ शाहजहाँ

Question Number : 66 Question Id : 5459275924 Question Type : MCQ Option Shuffling : Yes Display Question Number : Yes  
Single Line Question Option : No Option Orientation : Vertical

Correct Marks : 1 Wrong Marks : 0.25

James Augustus Hickey published which newspaper in 1780?

Options :

- ✘ The Bombay Herald
- ✔ The Bengal Gazette
- ✘ Sambad Kaumudi
- ✘ Mirat-ul-Akhbar

Question Number : 66 Question Id : 5459275924 Question Type : MCQ Option Shuffling : Yes Display Question Number : Yes  
Single Line Question Option : No Option Orientation : Vertical

Correct Marks : 1 Wrong Marks : 0.25

जेम्स ऑगस्टस हिड्डी ने 1780 में कौन सा अखबार प्रकाशित किया था?

Options :

- ✘ द बॉम्बे हेराल्ड
- ✔ द बंगाल गजट
- ✘ संवाद कौमुदी
- ✘ मिरात-उल-अखबार

Question Number : 67 Question Id : 5459275925 Question Type : MCQ Option Shuffling : Yes Display Question Number : Yes  
Single Line Question Option : No Option Orientation : Vertical

Correct Marks : 1 Wrong Marks : 0.25

During Medieval Indian History, Kalhan wrote which of the following books?

Options :

- ✘ Sabaq-e-Hindi
- ✔ Rajtarangini
- ✘ Bhagvatam
- ✘ Akbarnama

Question Number : 67 Question Id : 5459275925 Question Type : MCQ Option Shuffling : Yes Display Question Number : Yes  
Single Line Question Option : No Option Orientation : Vertical

Correct Marks : 1 Wrong Marks : 0.25

मध्यकालीन भारतीय इतिहास के दौरान, कल्हन ने निम्नलिखित में से कौन सी पुस्तक लिखी है?

Options :

- ✘ सबक-ए-हिन्दी
- ✔ राजतरंगिनी
- ✘ भागवतम
- ✘ अकबरनामा

Question Number : 68 Question Id : 5459275926 Question Type : MCQ Option Shuffling : Yes Display Question Number : Yes  
Single Line Question Option : No Option Orientation : Vertical

Correct Marks : 1 Wrong Marks : 0.25

Who among the following has been honoured with the highest civilian honour of UAE Zayed Medal in 2019?

Options :

- ✘ Pranab Mukherjee
- ✘ Sushma Swaraj
- ✔ Narendra Modi
- ✘ Rajesh Jain

Question Number : 68 Question Id : 5459275926 Question Type : MCQ Option Shuffling : Yes Display Question Number : Yes  
Single Line Question Option : No Option Orientation : Vertical

Correct Marks : 1 Wrong Marks : 0.25

निम्नलिखित में से किसे 2019 में संयुक्त अरब अमीरात के सर्वोच्च नागरिक सम्मान जायद पदक से सम्मानित किया गया है?



Options :

- ✘ प्रणव मुखर्जी
- ✘ सुषमा स्वराज
- ✔ नरेंद्र मोदी
- ✘ राजेश जैन

Question Number : 69 Question Id : 5459275927 Question Type : MCQ Option Shuffling : Yes Display Question Number : Yes  
Single Line Question Option : No Option Orientation : Vertical

Correct Marks : 1 Wrong Marks : 0.25

India's first manned Space mission is named as \_\_\_\_\_.

Options :

- ✔ Gaganyaan
- ✘ Chandrayaan
- ✘ Aditya L1
- ✘ Mangalyaan

Question Number : 69 Question Id : 5459275927 Question Type : MCQ Option Shuffling : Yes Display Question Number : Yes  
Single Line Question Option : No Option Orientation : Vertical

Correct Marks : 1 Wrong Marks : 0.25

भारत के पहले मानवयुक्त अंतरिक्ष मिशन का नाम \_\_\_\_\_ है।

Options :

- ✔ गगनयान
- ✘ चंद्रयान
- ✘ आदित्य L1
- ✘ मंगलयान

Question Number : 70 Question Id : 5459275928 Question Type : MCQ Option Shuffling : Yes Display Question Number : Yes  
Single Line Question Option : No Option Orientation : Vertical

Correct Marks : 1 Wrong Marks : 0.25

Who won the 2019 Oscars for Best Actor?

Options :

- ✔ Rami Malek
- ✘ Bradley Cooper
- ✘ Viggo Mortensen
- ✘ Alfonso Cuaron

Question Number : 70 Question Id : 5459275928 Question Type : MCQ Option Shuffling : Yes Display Question Number : Yes  
Single Line Question Option : No Option Orientation : Vertical

Correct Marks : 1 Wrong Marks : 0.25

सर्वश्रेष्ठ अभिनेता का 2019 ऑस्कर पुरस्कार किसने जीता है?

Options :

- ✔ रामी मालेक
- ✘ ब्रैडली कूपर
- ✘ विगगो मोर्टेंसन
- ✘ अल्फांसो क्यूरोन

Question Number : 71 Question Id : 5459275929 Question Type : MCQ Option Shuffling : Yes Display Question Number : Yes  
Single Line Question Option : No Option Orientation : Vertical

Correct Marks : 1 Wrong Marks : 0.25

\_\_\_\_\_ won the Saraswati Samman 2018.

Options :

- ✘ Sitanshu Yashaschandra
- ✔ K. Siva Reddy
- ✘ Gulzar
- ✘ Javed Akhtar

Question Number : 71 Question Id : 5459275929 Question Type : MCQ Option Shuffling : Yes Display Question Number : Yes  
Single Line Question Option : No Option Orientation : Vertical

Correct Marks : 1 Wrong Marks : 0.25

\_\_\_\_\_ ने सरस्वती सम्मान 2018 जीता था।

Options :

- ✘ सीतांशु यशचंद्र
- ✔ के. शिवा रेड्डी
- ✘ गुलज़ार
- ✘ जावेद अख्तर

Question Number : 72 Question Id : 5459275930 Question Type : MCQ Option Shuffling : Yes Display Question Number : Yes  
Single Line Question Option : No Option Orientation : Vertical

Correct Marks : 1 Wrong Marks : 0.25

"The Audacity of Hope" book is written by \_\_\_\_\_.

Options :

- ✘ Donald Trump
- ✔ Barack Obama
- ✘ Arun Jaitley
- ✘ Shinzō Abe

Question Number : 72 Question Id : 5459275930 Question Type : MCQ Option Shuffling : Yes Display Question Number : Yes  
Single Line Question Option : No Option Orientation : Vertical

Correct Marks : 1 Wrong Marks : 0.25

"द ऑडैसिटी ऑफ होप" पुस्तक \_\_\_\_\_ द्वारा लिखी गई है।

Options :

- ✘ डॉनल्ड ट्रम्प
- ✔ बराक ओबामा
- ✘ अरुण जेटली
- ✘ शिन्ज़ो अबे

Question Number : 73 Question Id : 5459275931 Question Type : MCQ Option Shuffling : Yes Display Question Number : Yes  
Single Line Question Option : No Option Orientation : Vertical

Correct Marks : 1 Wrong Marks : 0.25

राष्ट्रीय एकता दिवस निम्नलिखित में से किस शख्सियत के सम्मान में मनाया जाता है?

Options :

- ✘ डॉ. बी.आर. अम्बेडकर
- ✘ महात्मा गांधी
- ✘ सुभाष चंद्र बोस
- ✔ सरदार वल्लभभाई पटेल

Question Number : 73 Question Id : 5459275931 Question Type : MCQ Option Shuffling : Yes Display Question Number : Yes  
Single Line Question Option : No Option Orientation : Vertical

Correct Marks : 1 Wrong Marks : 0.25

National Unity Day is observed in honor of which of the following personalities?

Options :

- ✘ Dr. B. R. Ambedkar
- ✘ Mahatma Gandhi
- ✘ Subhash Chandra Bose
- ✔ Sardar Vallabhbhai Patel

Question Number : 74 Question Id : 5459275932 Question Type : MCQ Option Shuffling : Yes Display Question Number : Yes  
Single Line Question Option : No Option Orientation : Vertical

Correct Marks : 1 Wrong Marks : 0.25

The President of India can be removed from office through \_\_\_\_\_.

Options :

- ✘ Casting
- ✘ Reprimand
- ✘ Charge
- ✔ Impeachment

Question Number : 74 Question Id : 5459275932 Question Type : MCQ Option Shuffling : Yes Display Question Number : Yes  
Single Line Question Option : No Option Orientation : Vertical

Correct Marks : 1 Wrong Marks : 0.25

भारत के राष्ट्रपति को \_\_\_\_\_ के माध्यम से पद से हटाया जा सकता है।

Options :

- ✘ कास्टिंग
- ✘ फटकार
- ✘ आरोप
- ✔ महाभियोग

Question Number : 75 Question Id : 5459275933 Question Type : MCQ Option Shuffling : Yes Display Question Number : Yes  
Single Line Question Option : No Option Orientation : Vertical

Correct Marks : 1 Wrong Marks : 0.25

According to the Indian Constitution, no citizen shall be discriminated on the basis of which of the following?

- I. Race
- II. Caste

Options :

- ✘ Only I
- ✘ Only II
- ✔ Both I and II
- ✘ Neither I nor II

Question Number : 75 Question Id : 5459275933 Question Type : MCQ Option Shuffling : Yes Display Question Number : Yes  
Single Line Question Option : No Option Orientation : Vertical

Correct Marks : 1 Wrong Marks : 0.25

भारतीय संविधान के अनुसार, निम्नलिखित में से किस आधार पर किसी भी नागरिक के साथ विभेद नहीं किया जाएगा?

- I. मूलवंश
- II. जाति

Options :

- ✘ केवल I

2. ✘ केवल II
3. ✔ I तथा II दोनों
4. ✘ ना तो I ना तो II

Question Number : 76 Question Id : 5459275934 Question Type : MCQ Option Shuffling : Yes Display Question Number : Yes  
Single Line Question Option : No Option Orientation : Vertical

Correct Marks : 1 Wrong Marks : 0.25

Who can proclaim Financial Emergency in India?

Options :

1. ✘ Vice President
2. ✔ President
3. ✘ Chief Minister
4. ✘ Prime Minister

Question Number : 76 Question Id : 5459275934 Question Type : MCQ Option Shuffling : Yes Display Question Number : Yes  
Single Line Question Option : No Option Orientation : Vertical

Correct Marks : 1 Wrong Marks : 0.25

भारत में वित्तीय आपातकाल की घोषणा कौन कर सकता है?

Options :

1. ✘ उपराष्ट्रपति
2. ✔ राष्ट्रपति
3. ✘ मुख्यमंत्री
4. ✘ प्रधानमंत्री

Question Number : 77 Question Id : 5459275935 Question Type : MCQ Option Shuffling : Yes Display Question Number : Yes  
Single Line Question Option : No Option Orientation : Vertical

Correct Marks : 1 Wrong Marks : 0.25

Through which Constitutional Amendment Act, the word 'socialist' was added to the Preamble of Indian constitution?

Options :

1. ✔ 42nd
2. ✘ 44th
3. ✘ 36th
4. ✘ 35th

Question Number : 77 Question Id : 5459275935 Question Type : MCQ Option Shuffling : Yes Display Question Number : Yes  
Single Line Question Option : No Option Orientation : Vertical

Correct Marks : 1 Wrong Marks : 0.25

किस संविधान संशोधन अधिनियम के माध्यम से, 'समाजवादी' शब्द को भारतीय संविधान की उद्देशिका में सम्मिलित किया गया था?

Options :

1. ✔ 42वां
2. ✘ 44वां
3. ✘ 36वां
4. ✘ 35वां

Question Number : 78 Question Id : 5459275936 Question Type : MCQ Option Shuffling : Yes Display Question Number : Yes  
Single Line Question Option : No Option Orientation : Vertical

Correct Marks : 1 Wrong Marks : 0.25

How many gold medals did India win in Commonwealth Games 2018?

Options :

1. ✘ 20
2. ✔ 26
3. ✘ 18
4. ✘ 22

Question Number : 78 Question Id : 5459275936 Question Type : MCQ Option Shuffling : Yes Display Question Number : Yes  
Single Line Question Option : No Option Orientation : Vertical

Correct Marks : 1 Wrong Marks : 0.25

कॉमनवेल्थ गेम्स 2018 में भारत ने कितने स्वर्ण पदक जीते थे?

Options :

1. ✘ 20
2. ✔ 26
3. ✘ 18
4. ✘ 22

Question Number : 79 Question Id : 5459275937 Question Type : MCQ Option Shuffling : Yes Display Question Number : Yes  
Single Line Question Option : No Option Orientation : Vertical

Correct Marks : 1 Wrong Marks : 0.25

\_\_\_\_\_ won the Golden Boot award in the FIFA World Cup 2018.

Options :

1. ✔ Harry Kane
2. ✘ Kylian Mbappe
3. ✘ Thibaut Courtois
4. ✘ Antoine Griezmann

Question Number : 79 Question Id : 5459275937 Question Type : MCQ Option Shuffling : Yes Display Question Number : Yes  
Single Line Question Option : No Option Orientation : Vertical

Correct Marks : 1 Wrong Marks : 0.25

\_\_\_\_\_ ने फीफा विश्व कप 2018 में गोल्डन बूट पुरस्कार जीता था।

Options :

1. ✔ हैरी केन
2. ✘ काइलियान एम्बाप्पे
3. ✘ थिबुत कोर्टिस
4. ✘ एंटोनी ग्रीज़मैन

Question Number : 80 Question Id : 5459275938 Question Type : MCQ Option Shuffling : Yes Display Question Number : Yes  
Single Line Question Option : No Option Orientation : Vertical

Correct Marks : 1 Wrong Marks : 0.25

Which of the following pair of player - sport is NOT correct?

Options :

1. ✘ Divyansh Singh- Shooter
2. ✘ Mary Kom-Boxing
3. ✔ Sandeep Singh- Football
4. ✘ Suresh Raina- Cricket

Question Number : 80 Question Id : 5459275938 Question Type : MCQ Option Shuffling : Yes Display Question Number : Yes  
Single Line Question Option : No Option Orientation : Vertical

Correct Marks : 1 Wrong Marks : 0.25

निम्नलिखित में से कौन सा खिलाड़ी - खेल का युग्म सही नहीं है?

Options :

1. ✘ दिव्यांश सिंह- शूटर
2. ✘ मैरी कॉम-बॉक्सिंग
3. ✔ संदीप सिंह- फुटबॉल
4. ✘ सुरेश रैना- क्रिकेट

#### Arithmetic Ability1

Group Number :	5
Group Id :	545927295
Group Maximum Duration :	0
Group Minimum Duration :	0
Revisit allowed for view? :	No
Revisit allowed for edit? :	No
Break time:	0
Group Marks:	20
Revisit allowed for group Instructions? :	Yes
Maximum Instruction Time:	0
Minimum Instruction Time:	0

#### Arithmetic Ability1

Section Id :	545927295
Section Number :	1
Section type :	Online
Mandatory or Optional:	Mandatory
Number of Questions:	20
Number of Questions to be attempted:	20
Section Marks:	20
Display Number Panel:	Yes
Group All Questions:	No

Sub-Section Number:	1
Sub-Section Id:	545927353
Question Shuffling Allowed :	Yes

Question Number : 81 Question Id : 5459275939 Question Type : MCQ Option Shuffling : Yes Display Question Number : Yes  
Single Line Question Option : No Option Orientation : Vertical

Correct Marks : 1 Wrong Marks : 0.25

If  $723Y$  is divisible by 9, then what is the value of  $Y$ ?

Options :

1. ✘ 4
2. ✔ 6
3. ✘ 8
4. ✘ 3

Question Number : 81 Question Id : 5459275939 Question Type : MCQ Option Shuffling : Yes Display Question Number : Yes  
Single Line Question Option : No Option Orientation : Vertical

Correct Marks : 1 Wrong Marks : 0.25

यदि 723Y, 9 से विभाज्य है, तो Y का मान क्या है?

Options :

1. ✘ 4
2. ✔ 6
3. ✘ 8
4. ✘ 3

Question Number : 82 Question Id : 5459275940 Question Type : MCQ Option Shuffling : Yes Display Question Number : Yes  
Single Line Question Option : No Option Orientation : Vertical

Correct Marks : 1 Wrong Marks : 0.25

What is the value of  $(3.1 + 2.9)^2 + (3.1 - 2.9)^2$  ?

Options :

1. ✘ 30.14
2. ✘ 34.14
3. ✔ 36.04
4. ✘ 32.18

Question Number : 82 Question Id : 5459275940 Question Type : MCQ Option Shuffling : Yes Display Question Number : Yes  
Single Line Question Option : No Option Orientation : Vertical

Correct Marks : 1 Wrong Marks : 0.25

$(3.1 + 2.9)^2 + (3.1 - 2.9)^2$  का मान क्या है?

Options :

1. ✘ 30.14
2. ✘ 34.14
3. ✔ 36.04
4. ✘ 32.18

Question Number : 83 Question Id : 5459275941 Question Type : MCQ Option Shuffling : Yes Display Question Number : Yes  
Single Line Question Option : No Option Orientation : Vertical

Correct Marks : 1 Wrong Marks : 0.25

यदि 48Y72X, 72 से विभाज्य है, तो X + Y का मान क्या है?

Options :

1. ✘ 6
2. ✘ 15
3. ✘ 9
4. ✔ 6 या 15

Question Number : 83 Question Id : 5459275941 Question Type : MCQ Option Shuffling : Yes Display Question Number : Yes  
Single Line Question Option : No Option Orientation : Vertical

Correct Marks : 1 Wrong Marks : 0.25

If 48Y72X is divisible by 72, then what is the value of X + Y?

Options :

1. ✘ 6
2. ✘ 15

3. ✖ 9

4. ✔ 6 or 15

Question Number : 84 Question Id : 5459275942 Question Type : MCQ Option Shuffling : Yes Display Question Number : Yes  
Single Line Question Option : No Option Orientation : Vertical

Correct Marks : 1 Wrong Marks : 0.25

If a number is divisible by 12, then it must also be divisible by \_\_\_\_\_.

Options :

1. ✖ 8

2. ✖ 24

3. ✔ 6

4. ✖ 9

Question Number : 84 Question Id : 5459275942 Question Type : MCQ Option Shuffling : Yes Display Question Number : Yes  
Single Line Question Option : No Option Orientation : Vertical

Correct Marks : 1 Wrong Marks : 0.25

यदि एक संख्या 12 से विभाज्य है, तो वह \_\_\_\_\_ से भी विभाज्य होनी चाहिए।

Options :

1. ✖ 8

2. ✖ 24

3. ✔ 6

4. ✖ 9

Question Number : 85 Question Id : 5459275943 Question Type : MCQ Option Shuffling : Yes Display Question Number : Yes  
Single Line Question Option : No Option Orientation : Vertical

Correct Marks : 1 Wrong Marks : 0.25

How many numbers are there from 107 to 477 which are neither divisible by 2 nor by 5?

Options :

1. ✖ 153

2. ✖ 147

3. ✖ 151

4. ✔ 149

Question Number : 85 Question Id : 5459275943 Question Type : MCQ Option Shuffling : Yes Display Question Number : Yes  
Single Line Question Option : No Option Orientation : Vertical

Correct Marks : 1 Wrong Marks : 0.25

107 से 477 की कितनी ऐसी संख्याएँ हैं जो ना तो 2 से ना तो 5 से विभाज्य हैं?

Options :

1. ✖ 153

2. ✖ 147

3. ✖ 151

4. ✔ 149

Question Number : 86 Question Id : 5459275944 Question Type : MCQ Option Shuffling : Yes Display Question Number : Yes  
Single Line Question Option : No Option Orientation : Vertical

Correct Marks : 1 Wrong Marks : 0.25

A is the smallest three digit number which when divided by 8 and 12 leaves remainder 6 and 10 respectively.  
B is the largest two digit number which is divisible by both 8 and 7. What is the value of A + B?

Options :



1. ✓ 174
2. ✗ 172
3. ✗ 168
4. ✗ 180

Question Number : 86 Question Id : 5459275944 Question Type : MCQ Option Shuffling : Yes Display Question Number : Yes  
Single Line Question Option : No Option Orientation : Vertical

Correct Marks : 1 Wrong Marks : 0.25

A तीन अंको की ऐसी सबसे छोटी संख्या है जो 8 तथा 12 विभाजित करने पर शेषफल क्रमशः 6 तथा 10 देती है B दो अंको की वह सबसे बड़ी संख्या है जो 7 तथा 8 दोनों से विभाज्य है A + B का मान क्या है?

Options :

1. ✓ 174
2. ✗ 172
3. ✗ 168
4. ✗ 180

Question Number : 87 Question Id : 5459275945 Question Type : MCQ Option Shuffling : Yes Display Question Number : Yes  
Single Line Question Option : No Option Orientation : Vertical

Correct Marks : 1 Wrong Marks : 0.25

What is the value of If  $A = \frac{1}{15} + \frac{1}{35} + \frac{1}{63}$  and  $B = \frac{1}{56} + \frac{1}{42} + \frac{1}{30}$  ?

Note: For this question, discrepancy is found in question/answer. So, this question is ignored for all candidates.

Options :

1. 47/310
2. 67/360
3. 39/170
4. 61/340

Question Number : 87 Question Id : 5459275945 Question Type : MCQ Option Shuffling : Yes Display Question Number : Yes  
Single Line Question Option : No Option Orientation : Vertical

Correct Marks : 1 Wrong Marks : 0.25

यदि  $A = \frac{1}{15} + \frac{1}{35} + \frac{1}{63}$  तथा  $B = \frac{1}{56} + \frac{1}{42} + \frac{1}{30}$  का मान क्या है?

Note: For this question, discrepancy is found in question/answer. So, this question is ignored for all candidates.

Options :

1. 47/310
2. 67/360
3. 39/170
4. 61/340

Question Number : 88 Question Id : 5459275946 Question Type : MCQ Option Shuffling : Yes Display Question Number : Yes  
Single Line Question Option : No Option Orientation : Vertical

Correct Marks : 1 Wrong Marks : 0.25

What is the value of If  $A = (0.6)^2 + \sqrt{0.16} + \sqrt{0.0036}$  and  $B = \sqrt{0.36} + \sqrt{0.16} + \sqrt{0.0009}$  ?

Note: For this question, discrepancy is found in question/answer. So, this question is ignored for all candidates.

Options :

1. 1.52
2. 1.68
3. 1.85
4. 1.92

Question Number : 88 Question Id : 5459275946 Question Type : MCQ Option Shuffling : Yes Display Question Number : Yes Single Line Question Option : No Option Orientation : Vertical

Correct Marks : 1 Wrong Marks : 0.25

यदि  $A = (0.6)^2 + \sqrt{0.16} + \sqrt{0.0036}$  तथा  $B = \sqrt{0.36} + \sqrt{0.16} + \sqrt{0.0009}$  का मान क्या है?

Note: For this question, discrepancy is found in question/answer. So, this question is ignored for all candidates.

Options :

1. 1.52
2. 1.68
3. 1.85
4. 1.92

Question Number : 89 Question Id : 5459275947 Question Type : MCQ Option Shuffling : Yes Display Question Number : Yes Single Line Question Option : No Option Orientation : Vertical

Correct Marks : 1 Wrong Marks : 0.25

Which of the following statement(s) is/are correct?

I.  $3^{500} > 5^{300}$

II.  $2^{200} > 200^2$

Options :

1. ✘ Only I
2. ✘ Only II
3. ✔ Both I and II
4. ✘ Neither I nor II

Question Number : 89 Question Id : 5459275947 Question Type : MCQ Option Shuffling : Yes Display Question Number : Yes Single Line Question Option : No Option Orientation : Vertical

Correct Marks : 1 Wrong Marks : 0.25

निम्नलिखित में से कौन सा/से कथन सही है/हैं?

I.  $3^{500} > 5^{300}$

II.  $2^{200} > 200^2$

Options :

1. ✘ केवल I

2. ✘ केवल II
3. ✔ I तथा II दोनों
4. ✘ ना तो I ना तो II

Question Number : 90 Question Id : 5459275948 Question Type : MCQ Option Shuffling : Yes Display Question Number : Yes  
Single Line Question Option : No Option Orientation : Vertical

Correct Marks : 1 Wrong Marks : 0.25

Which of the following statement(s) is/are correct?

- I.  $4/7 > 5/11 > 3/5$
- II.  $7/5 > 11/9 > 13/7$

Options :

1. ✘ Only I
2. ✘ Only II
3. ✘ Both I and II
4. ✔ Neither I nor II

Question Number : 90 Question Id : 5459275948 Question Type : MCQ Option Shuffling : Yes Display Question Number : Yes  
Single Line Question Option : No Option Orientation : Vertical

Correct Marks : 1 Wrong Marks : 0.25

निम्नलिखित में से कौन सा/से कथन सही है/हैं?

- I.  $4/7 > 5/11 > 3/5$
- II.  $7/5 > 11/9 > 13/7$

Options :

1. ✘ केवल I
2. ✘ केवल II
3. ✘ I तथा II दोनों
4. ✔ ना तो I ना तो II

Question Number : 91 Question Id : 5459275949 Question Type : MCQ Option Shuffling : Yes Display Question Number : Yes  
Single Line Question Option : No Option Orientation : Vertical

Correct Marks : 1 Wrong Marks : 0.25

Rajat offered a discount of Rs 240 on selling an article. If the marked price of this article is Rs 1200, then what is the discount percentage?

Options :

1. ✘ 10 percent
2. ✘ 40 percent
3. ✘ 25 percent
4. ✔ 20 percent

Question Number : 91 Question Id : 5459275949 Question Type : MCQ Option Shuffling : Yes Display Question Number : Yes  
Single Line Question Option : No Option Orientation : Vertical

Correct Marks : 1 Wrong Marks : 0.25

एक वस्तु को बेचने पर रजत ने 240 रुपये की छूट दी। यदि इस वस्तु का अंकित मूल्य 1200 रुपये है, तो छूट प्रतिशत क्या है?

Options :

1. ✘ 10 प्रतिशत
2. ✘ 40 प्रतिशत
3. ✘ 25 प्रतिशत

4. ✓ 20 प्रतिशत

Question Number : 92 Question Id : 5459275950 Question Type : MCQ Option Shuffling : Yes Display Question Number : Yes  
Single Line Question Option : No Option Orientation : Vertical

Correct Marks : 1 Wrong Marks : 0.25

After allowing a discount of 44 percent on a shirt, a man still gains 14 percent. What is respective ratio of marked price and cost price?

Options :

1. ✗ 28 : 57
2. ✗ 114 : 51
3. ✓ 57 : 28
4. ✗ 51 : 28

Question Number : 92 Question Id : 5459275950 Question Type : MCQ Option Shuffling : Yes Display Question Number : Yes  
Single Line Question Option : No Option Orientation : Vertical

Correct Marks : 1 Wrong Marks : 0.25

एक कमीज पर 44 प्रतिशत की छूट देने के पश्चात भी एक व्यक्ति को 14 प्रतिशत का लाभ होता है। अंकित मूल्य तथा क्रय मूल्य का क्रमशः अनुपात क्या है?

Options :

1. ✗ 28 : 57
2. ✗ 114 : 51
3. ✓ 57 : 28
4. ✗ 51 : 28

Question Number : 93 Question Id : 5459275951 Question Type : MCQ Option Shuffling : Yes Display Question Number : Yes  
Single Line Question Option : No Option Orientation : Vertical

Correct Marks : 1 Wrong Marks : 0.25

Average of 31 observations is 39. Average of first 14 observation is 31. Average of last 18 observation is 45. What is the value of 14th observation?

Options :

1. ✗ 25
2. ✗ 27
3. ✓ 35
4. ✗ 33

Question Number : 93 Question Id : 5459275951 Question Type : MCQ Option Shuffling : Yes Display Question Number : Yes  
Single Line Question Option : No Option Orientation : Vertical

Correct Marks : 1 Wrong Marks : 0.25

31 अवलोकन का औसत 39 है। प्रथम 14 अवलोकन का औसत 31 है। अंतिम 18 अवलोकन का औसत 45 है। 14 वे अवलोकन का मान क्या है?

Options :

1. ✗ 25
2. ✗ 27
3. ✓ 35
4. ✗ 33

Question Number : 94 Question Id : 5459275952 Question Type : MCQ Option Shuffling : Yes Display Question Number : Yes  
Single Line Question Option : No Option Orientation : Vertical

Correct Marks : 1 Wrong Marks : 0.25

If the side of a square is increased by 35 percent, then what will be the percentage increase in its area?

Options :

- ✘ 70 percent
- ✘ 78.25 percent
- ✘ 84 percent
- ✔ 82.25 percent

Question Number : 94 Question Id : 5459275952 Question Type : MCQ Option Shuffling : Yes Display Question Number : Yes  
Single Line Question Option : No Option Orientation : Vertical

Correct Marks : 1 Wrong Marks : 0.25

यदि एक वर्ग की भुजा को 35 प्रतिशत से बढ़ाया गया है, तो उसके क्षेत्रफल में कितने प्रतिशत की वृद्धि होगी?

Options :

- ✘ 70 प्रतिशत
- ✘ 78.25 प्रतिशत
- ✘ 84 प्रतिशत
- ✔ 82.25 प्रतिशत

Question Number : 95 Question Id : 5459275953 Question Type : MCQ Option Shuffling : Yes Display Question Number : Yes  
Single Line Question Option : No Option Orientation : Vertical

Correct Marks : 1 Wrong Marks : 0.25

Length and breadth of a rectangle are decreased by 32 percent and 30 percent respectively. What will be the percentage decrease in its area?

Options :

- ✘ 48.6 percent
- ✘ 38.6 percent
- ✔ 52.4 percent
- ✘ 46.4 percent

Question Number : 95 Question Id : 5459275953 Question Type : MCQ Option Shuffling : Yes Display Question Number : Yes  
Single Line Question Option : No Option Orientation : Vertical

Correct Marks : 1 Wrong Marks : 0.25

एक आयत की लम्बाई तथा चौड़ाई को क्रमशः 32 प्रतिशत तथा 30 प्रतिशत से घटाया गया है। इसके क्षेत्रफल में कितने प्रतिशत की कमी होगी?

Options :

- ✘ 48.6 प्रतिशत
- ✘ 38.6 प्रतिशत
- ✔ 52.4 प्रतिशत
- ✘ 46.4 प्रतिशत

Question Number : 96 Question Id : 5459275954 Question Type : MCQ Option Shuffling : Yes Display Question Number : Yes  
Single Line Question Option : No Option Orientation : Vertical

Correct Marks : 1 Wrong Marks : 0.25

Due to 30 percent decrease in the price of pulses a man is able to purchase 6 kg more pulses for Rs 420. What is the original price of pulse?

Options :

- ✘ Rs 21/kg
- ✘ Rs 20/kg
- ✔ Rs 30/kg
- ✘ Rs 25/kg

Question Number : 96 Question Id : 5459275954 Question Type : MCQ Option Shuffling : Yes Display Question Number : Yes  
Single Line Question Option : No Option Orientation : Vertical

**Correct Marks : 1 Wrong Marks : 0.25**

दाल के मूल्य में 30 प्रतिशत की कमी होने के कारण, एक व्यक्ति 420 रुपये में 6 कि.ग्रा. दाल अधिक खरीद पाता है। दाल का आरंभिक मूल्य क्या है?

**Options :**

1. ✘ 21 रुपये/कि.ग्रा.
2. ✘ 20 रुपये/कि.ग्रा.
3. ✔ 30 रुपये/कि.ग्रा.
4. ✘ 25 रुपये/कि.ग्रा.

**Question Number : 97 Question Id : 5459275955 Question Type : MCQ Option Shuffling : Yes Display Question Number : Yes Single Line Question Option : No Option Orientation : Vertical**

**Correct Marks : 1 Wrong Marks : 0.25**

Suresh buys a shirt for Rs 960 and sells it for Rs 576. What is the loss percentage?

**Options :**

1. ✔ 40 Percent
2. ✘ 66.66 Percent
3. ✘ 20 Percent
4. ✘ 33.33 Percent

**Question Number : 97 Question Id : 5459275955 Question Type : MCQ Option Shuffling : Yes Display Question Number : Yes Single Line Question Option : No Option Orientation : Vertical**

**Correct Marks : 1 Wrong Marks : 0.25**

सुरेश एक कमीज को 960 रुपये में खरीदता है तथा उसे 576 रुपये में बेचता है। हानि प्रतिशत क्या है?

**Options :**

1. ✔ 40 प्रतिशत
2. ✘ 66.66 प्रतिशत
3. ✘ 20 प्रतिशत
4. ✘ 33.33 प्रतिशत

**Question Number : 98 Question Id : 5459275956 Question Type : MCQ Option Shuffling : Yes Display Question Number : Yes Single Line Question Option : No Option Orientation : Vertical**

**Correct Marks : 1 Wrong Marks : 0.25**

Vyom earns a profit of 40% on selling an article. If instead of calculating the profit on cost price, he calculates it on selling price, then what will be the profit percentage?

**Options :**

1. ✔ 28.56 Percent
2. ✘ 14.28 Percent
3. ✘ 20 Percent
4. ✘ 35 Percent

**Question Number : 98 Question Id : 5459275956 Question Type : MCQ Option Shuffling : Yes Display Question Number : Yes Single Line Question Option : No Option Orientation : Vertical**

**Correct Marks : 1 Wrong Marks : 0.25**

व्योम एक वस्तु को बेचकर 40 प्रतिशत का लाभ कमाता है। यदि लाभ को क्रय मूल्य पर परिकलित न करके वह विक्रय मूल्य पर परिकलित करता है, तो लाभ प्रतिशत क्या होगा?

**Options :**

1. ✔ 28.56 प्रतिशत
2. ✘ 14.28 प्रतिशत
3. ✘ 20 प्रतिशत
4. ✘ 35 प्रतिशत

Question Number : 99 Question Id : 5459275957 Question Type : MCQ Option Shuffling : Yes Display Question Number : Yes  
Single Line Question Option : No Option Orientation : Vertical

Correct Marks : 1 Wrong Marks : 0.25

Ramesh sells a car at a profit of 15 percent. If he bought it at 30 percent less price and sold it for Rs 520 more, then he would have gained a total profit of 70 percent. What is the initial cost price of the car?

Options :

1. ✘ Rs 9100
2. ✔ Rs 13000
3. ✘ Rs 16000
4. ✘ Rs 14000

Question Number : 99 Question Id : 5459275957 Question Type : MCQ Option Shuffling : Yes Display Question Number : Yes  
Single Line Question Option : No Option Orientation : Vertical

Correct Marks : 1 Wrong Marks : 0.25

रमेश एक कार को 15 प्रतिशत की लाभ पर बेचता है। यदि वह इसे 30 प्रतिशत कम मूल्य पर खरीदता तथा 520 रुपये अधिक पर बेचता, तो उसे 70 प्रतिशत का कुल लाभ प्राप्त होता। कार का आरंभिक क्रय मूल्य क्या है?

Options :

1. ✘ 9100 रुपये
2. ✔ 13000 रुपये
3. ✘ 16000 रुपये
4. ✘ 14000 रुपये

Question Number : 100 Question Id : 5459275958 Question Type : MCQ Option Shuffling : Yes Display Question Number : Yes  
Single Line Question Option : No Option Orientation : Vertical

Correct Marks : 1 Wrong Marks : 0.25

If  $P = 2Q$  and  $P + Q = 72$ , then what is the value of  $P - Q = ?$

Options :

1. ✘ 16
2. ✘ 20
3. ✔ 24
4. ✘ 32

Question Number : 100 Question Id : 5459275958 Question Type : MCQ Option Shuffling : Yes Display Question Number : Yes  
Single Line Question Option : No Option Orientation : Vertical

Correct Marks : 1 Wrong Marks : 0.25

यदि  $P = 2Q$  तथा  $P + Q = 72$  हो, तो  $P - Q$  का मान क्या है?

Options :

1. ✘ 16
2. ✘ 20
3. ✔ 24
4. ✘ 32

Arithmetic Ability2

Group Number :	6
Group Id :	545927296
Group Maximum Duration :	0
Group Minimum Duration :	0

Revisit allowed for view? :	No
Revisit allowed for edit? :	No
Break time:	0
Group Marks:	20
Revisit allowed for group Instructions? :	Yes
Maximum Instruction Time:	0
Minimum Instruction Time:	0

### Arithmetic Ability2

Section Id :	545927296
Section Number :	1
Section type :	Online
Mandatory or Optional:	Mandatory
Number of Questions:	20
Number of Questions to be attempted:	20
Section Marks:	20
Display Number Panel:	Yes
Group All Questions:	No

Sub-Section Number:	1
Sub-Section Id:	545927354
Question Shuffling Allowed :	Yes

Question Number : 101 Question Id : 5459275959 Question Type : MCQ Option Shuffling : Yes Display Question Number : Yes  
Single Line Question Option : No Option Orientation : Vertical

Correct Marks : 1 Wrong Marks : 0.25

If  $x = (3/4)y$  and  $y = (2/3)z$ , then what is  $x : y : z$ ?

Options :

1. ✘ 1 : 4 : 2
2. ✘ 6 : 4 : 3
3. ✘ 2 : 4 : 1
4. ✔ 3 : 4 : 6

Question Number : 101 Question Id : 5459275959 Question Type : MCQ Option Shuffling : Yes Display Question Number : Yes  
Single Line Question Option : No Option Orientation : Vertical

Correct Marks : 1 Wrong Marks : 0.25

यदि  $x = (3/4)y$  तथा  $y = (2/3)z$  हो, तो  $x : y : z$  क्या है?

Options :

1. ✘ 1 : 4 : 2
2. ✘ 6 : 4 : 3
3. ✘ 2 : 4 : 1
4. ✔ 3 : 4 : 6

Question Number : 102 Question Id : 5459275960 Question Type : MCQ Option Shuffling : Yes Display Question Number : Yes  
Single Line Question Option : No Option Orientation : Vertical

Correct Marks : 1 Wrong Marks : 0.25

Mr. X and Mr. Y have invested in a business in the ratio of 5 : 8. Mr. X has invested for 16 months. If Mr. X and Mr. Y receive profit in the ratio of 1 : 2, then for how many months did Mr. Y invest?

Options :



1. ✓ 20 months
2. ✗ 24 months
3. ✗ 18 months
4. ✗ 26 months

Question Number : 102 Question Id : 5459275960 Question Type : MCQ Option Shuffling : Yes Display Question Number : Yes  
Single Line Question Option : No Option Orientation : Vertical

Correct Marks : 1 Wrong Marks : 0.25

Mr. X तथा Mr. Y ने एक व्यापार में 5 : 8 के अनुपात में पूँजी निवेश की। Mr. X ने 16 महीने के लिए निवेश किया। यदि Mr. X तथा Mr. Y को 1 : 2 के अनुपात में लाभ प्राप्त हुआ है, तो Mr. Y ने कितने महीनों के लिए निवेश किया होगा?

Options :

1. ✓ 20 माह
2. ✗ 24 माह
3. ✗ 18 माह
4. ✗ 26 माह

Question Number : 103 Question Id : 5459275961 Question Type : MCQ Option Shuffling : Yes Display Question Number : Yes  
Single Line Question Option : No Option Orientation : Vertical

Correct Marks : 1 Wrong Marks : 0.25

When kept at simple interest a sum of money becomes Rs 6800 in 3 years and Rs 8000 in 5 years. What is the per annum rate of interest?

Options :

1. ✗ 16 percent
2. ✗ 1 percent
3. ✓ 12 percent
4. ✗ 14 percent

Question Number : 103 Question Id : 5459275961 Question Type : MCQ Option Shuffling : Yes Display Question Number : Yes  
Single Line Question Option : No Option Orientation : Vertical

Correct Marks : 1 Wrong Marks : 0.25

एक धनराशि जब साधारण ब्याज पर रखी जाती है तो वह 3 वर्ष में 6800 रुपये तथा 5 वर्ष में 8000 रुपये हो जाती है। प्रति वर्ष ब्याज की दर क्या है?

Options :

1. ✗ 16 प्रतिशत
2. ✗ 1 प्रतिशत
3. ✓ 12 प्रतिशत
4. ✗ 14 प्रतिशत

Question Number : 104 Question Id : 5459275962 Question Type : MCQ Option Shuffling : Yes Display Question Number : Yes  
Single Line Question Option : No Option Orientation : Vertical

Correct Marks : 1 Wrong Marks : 0.25

Rs 25000 are kept at compound interest (compounding annually). If the rate of interest is 8 percent per annum, then what is the interest for 2 years?

Options :

1. ✓ Rs 4160
2. ✗ Rs 4280
3. ✗ Rs 4480
4. ✗ Rs 4360

Question Number : 104 Question Id : 5459275962 Question Type : MCQ Option Shuffling : Yes Display Question Number : Yes  
Single Line Question Option : No Option Orientation : Vertical

Correct Marks : 1 Wrong Marks : 0.25

25000 रुपये को चक्रवृद्धि ब्याज (वार्षिक संयोजन) पर रखा जाता है यदि ब्याज की दर 8 प्रतिशत प्रति वर्ष है, तो 2 वर्ष का ब्याज क्या है?

Options :

- ✓ 4160 रुपये
- ✗ 4280 रुपये
- ✗ 4480 रुपये
- ✗ 4360 रुपये

Question Number : 105 Question Id : 5459275963 Question Type : MCQ Option Shuffling : Yes Display Question Number : Yes  
Single Line Question Option : No Option Orientation : Vertical

Correct Marks : 1 Wrong Marks : 0.25

Rs 35000 are kept at a rate of 12 percent per annum. What is the difference in compound interest and simple interest for 2 years?

Options :

- ✗ Rs 576
- ✗ Rs 416
- ✓ Rs 504
- ✗ Rs 608

Question Number : 105 Question Id : 5459275963 Question Type : MCQ Option Shuffling : Yes Display Question Number : Yes  
Single Line Question Option : No Option Orientation : Vertical

Correct Marks : 1 Wrong Marks : 0.25

35000 रुपये को 12 प्रतिशत प्रति वर्ष की दर से रखा जाता है 2 वर्ष के चक्रवृद्धि ब्याज तथा साधारण ब्याज का अंतर क्या है?

Options :

- ✗ 576 रुपये
- ✗ 416 रुपये
- ✓ 504 रुपये
- ✗ 608 रुपये

Question Number : 106 Question Id : 5459275964 Question Type : MCQ Option Shuffling : Yes Display Question Number : Yes  
Single Line Question Option : No Option Orientation : Vertical

Correct Marks : 1 Wrong Marks : 0.25

The speed of a train is 108 km/hr. If the length of the train is 420 metres, then in how much time it will completely cross a pole?

Options :

- ✓ 14 seconds
- ✗ 12 seconds
- ✗ 15 seconds
- ✗ 18 seconds

Question Number : 106 Question Id : 5459275964 Question Type : MCQ Option Shuffling : Yes Display Question Number : Yes  
Single Line Question Option : No Option Orientation : Vertical

Correct Marks : 1 Wrong Marks : 0.25

एक रेलगाड़ी की गति 108 कि.मी./घंटा है यदि रेलगाड़ी की लम्बाई 420 मीटर है, तो वह एक खंभे को पूरा पार करने में कितना समय लेगी?

Options :

- ✓ 14 सेकण्ड
- ✗ 12 सेकण्ड

3. ✖ 15 सेकण्ड

4. ✖ 18 सेकण्ड

Question Number : 107 Question Id : 5459275965 Question Type : MCQ Option Shuffling : Yes Display Question Number : Yes Single Line Question Option : No Option Orientation : Vertical

Correct Marks : 1 Wrong Marks : 0.25

The downstream speed of a boat is 40 km/hr and the speed of stream is 15 km/hr. What will be the total time taken by the boat to cover 240 km downstream and 110 km upstream?

Options :

1. ✖ 12 hours

2. ✔ 17 hours

3. ✖ 21 hours

4. ✖ 23 hours

Question Number : 107 Question Id : 5459275965 Question Type : MCQ Option Shuffling : Yes Display Question Number : Yes Single Line Question Option : No Option Orientation : Vertical

Correct Marks : 1 Wrong Marks : 0.25

एक नाव की गति धारा के अनुकूल 40 कि.मी./घंटा है तथा धारा की गति 15 कि.मी./घंटा है। धारा के अनुकूल 240 कि.मी. तथा धारा के प्रतिकूल 110 कि.मी. दूरी तय करने में नाव द्वारा कुल कितना समय लिया जायेगा?

Options :

1. ✖ 12 घंटे

2. ✔ 17 घंटे

3. ✖ 21 घंटे

4. ✖ 23 घंटे

Question Number : 108 Question Id : 5459275966 Question Type : MCQ Option Shuffling : Yes Display Question Number : Yes Single Line Question Option : No Option Orientation : Vertical

Correct Marks : 1 Wrong Marks : 0.25

Mohit and Sumit are 320 meters apart from each other and Sumit is ahead of Mohit. They both are moving in the same direction. Mohit catches up with Sumit in 80 seconds. If the speed of Sumit is 36 km/hr, then what is the speed of Mohit?

Options :

1. ✖ 190 km/hr

2. ✖ 150 km/hr

3. ✔ 180 km/hr

4. ✖ 160 km/hr

Question Number : 108 Question Id : 5459275966 Question Type : MCQ Option Shuffling : Yes Display Question Number : Yes Single Line Question Option : No Option Orientation : Vertical

Correct Marks : 1 Wrong Marks : 0.25

मोहित तथा सुमित एक दूसरे से 320 मीटर दूर हैं तथा सुमित मोहित से आगे है। वे दोनों एक ही दिशा में जा रहे हैं। मोहित, सुमित को 80 सेकण्ड में पकड़ लेता है। यदि सुमित की गति 36 कि.मी./घंटा है, तो मोहित की गति क्या है?

Options :

1. ✖ 190 कि.मी./घंटा

2. ✖ 150 कि.मी./घंटा

3. ✔ 180 कि.मी./घंटा

4. ✖ 160 कि.मी./घंटा

Question Number : 109 Question Id : 5459275967 Question Type : MCQ Option Shuffling : Yes Display Question Number : Yes Single Line Question Option : No Option Orientation : Vertical

**Correct Marks : 1 Wrong Marks : 0.25**

Suraj can do a work in 60 days and Ashok can do the same work in 20 days. They start the work together, but Suraj leaves the work after 12 days from the beginning. In how many days will Ashok finish the remaining work alone?

**Options :**

1. ✓ 4 days
2. ✗ 3 days
3. ✗ 5 days
4. ✗ 6 days

**Question Number : 109 Question Id : 5459275967 Question Type : MCQ Option Shuffling : Yes Display Question Number : Yes Single Line Question Option : No Option Orientation : Vertical**

**Correct Marks : 1 Wrong Marks : 0.25**

सूरज एक कार्य को 60 दिन में कर सकता है तथा अशोक उसी कार्य को 20 दिन में कर सकता है। वे कार्य को साथ करना आरंभ करते हैं, परंतु सूरज कार्य आरंभ होने के 12 दिन पश्चात कार्य छोड़कर चला जाता है। शेष कार्य को अशोक अकेला कितने दिन में पूरा करेगा?

**Options :**

1. ✓ 4 दिन
2. ✗ 3 दिन
3. ✗ 5 दिन
4. ✗ 6 दिन

**Question Number : 110 Question Id : 5459275968 Question Type : MCQ Option Shuffling : Yes Display Question Number : Yes Single Line Question Option : No Option Orientation : Vertical**

**Correct Marks : 1 Wrong Marks : 0.25**

Chetan alone can complete a work in 16 days. Chetan started the work alone but left the work after 11 days. If Ravi alone completes the remaining work in 15 days, then in how many days Ravi alone can complete the total work?

**Options :**

1. ✗ 24 days
2. ✓ 48 days
3. ✗ 40 days
4. ✗ 34 days

**Question Number : 110 Question Id : 5459275968 Question Type : MCQ Option Shuffling : Yes Display Question Number : Yes Single Line Question Option : No Option Orientation : Vertical**

**Correct Marks : 1 Wrong Marks : 0.25**

चेतन अकेले एक कार्य को 16 दिन में पूरा कर सकता है। चेतन अकेले कार्य शुरू करता है लेकिन 11 दिन पश्चात कार्य छोड़ देता है। यदि रवि अकेले बचा हुआ कार्य 15 दिन में पूरा करता है, तो रवि अकेले पूरे कार्य को कितने दिन में पूरा कर सकता है?

**Options :**

1. ✗ 24 दिन
2. ✓ 48 दिन
3. ✗ 40 दिन
4. ✗ 34 दिन

**Question Number : 111 Question Id : 5459275969 Question Type : MCQ Option Shuffling : Yes Display Question Number : Yes Single Line Question Option : No Option Orientation : Vertical**

**Correct Marks : 1 Wrong Marks : 0.25**

दो प्रवेशिका पाइप एक टैंक को क्रमशः 50 मिनट तथा 100 मिनट में भर सकते हैं। एक निकास पाइप टैंक 3 लीटर प्रति मिनट खाली कर सकता है। यदि तीनों पाइपों को खोल दिया जाए, तो टैंक 40 मिनट में पूरा भर जाएगा। टैंक की क्षमता क्या है?

**Options :**

1. ✘ 450 लीटर
2. ✘ 200 लीटर
3. ✔ 600 लीटर
4. ✘ 500 लीटर

Question Number : 111 Question Id : 5459275969 Question Type : MCQ Option Shuffling : Yes Display Question Number : Yes Single Line Question Option : No Option Orientation : Vertical

Correct Marks : 1 Wrong Marks : 0.25

Two inlet pipes can fill a tank in 50 minutes and 100 minutes respectively. An outlet pipe can empty 3 litres per minute. If all the three pipes are opened, then tank will be completely filled in 40 minutes. What is the capacity of the tank?

Options :

1. ✘ 450 litres
2. ✘ 200 litres
3. ✔ 600 litres
4. ✘ 500 litres

Question Number : 112 Question Id : 5459275970 Question Type : MCQ Option Shuffling : Yes Display Question Number : Yes Single Line Question Option : No Option Orientation : Vertical

Correct Marks : 1 Wrong Marks : 0.25

A metallic solid sphere has radius 14 cm. If it is melted to form small spheres of radius 3.5 cm, then how many small spheres will be obtained?

Options :

1. ✘ 40
2. ✔ 64
3. ✘ 36
4. ✘ 52

Question Number : 112 Question Id : 5459275970 Question Type : MCQ Option Shuffling : Yes Display Question Number : Yes Single Line Question Option : No Option Orientation : Vertical

Correct Marks : 1 Wrong Marks : 0.25

एक ठोस धातु के गोले की त्रिज्या 14 से.मी. है। यदि इसे पिघलाकर 3.5 से.मी. त्रिज्या वाले छोटे गोले बनाए जाएं, तो छोटे गोले कितने प्राप्त होंगे?

Options :

1. ✘ 40
2. ✔ 64
3. ✘ 36
4. ✘ 52

Question Number : 113 Question Id : 5459275971 Question Type : MCQ Option Shuffling : Yes Display Question Number : Yes Single Line Question Option : No Option Orientation : Vertical

Correct Marks : 1 Wrong Marks : 0.25

A sphere is melted to form a cylinder whose height is  $\frac{1}{6}$  of the radius. If the radius of the sphere is 6 cm, then what is the radius of the cylinder?

Options :

1. ✘ 14 cm
2. ✔ 12 cm
3. ✘ 8 cm
4. ✘ 10 cm

Question Number : 113 Question Id : 5459275971 Question Type : MCQ Option Shuffling : Yes Display Question Number : Yes  
Single Line Question Option : No Option Orientation : Vertical

Correct Marks : 1 Wrong Marks : 0.25

एक गोले को पिघलाकर एक बेलन बनाया गया जिसकी ऊँचाई उसकी त्रिज्या की  $1/6$  है। यदि गोले की त्रिज्या 6 से.मी. है, तो बेलन की त्रिज्या क्या है?

Options :

1. ✘ 14 से.मी.
2. ✔ 12 से.मी.
3. ✘ 8 से.मी.
4. ✘ 10 से.मी.

Question Number : 114 Question Id : 5459275972 Question Type : MCQ Option Shuffling : Yes Display Question Number : Yes  
Single Line Question Option : No Option Orientation : Vertical

Correct Marks : 1 Wrong Marks : 0.25

The area of a square and a rectangle are equal. The length of the rectangle is 15 cm greater than the side of the square and breadth is 5 cm less than the side of the square. What is the area of the rectangle?

Options :

1. ✔ 56.25 cm<sup>2</sup>
2. ✘ 51.75 cm<sup>2</sup>
3. ✘ 58.5 cm<sup>2</sup>
4. ✘ 48.75 cm<sup>2</sup>

Question Number : 114 Question Id : 5459275972 Question Type : MCQ Option Shuffling : Yes Display Question Number : Yes  
Single Line Question Option : No Option Orientation : Vertical

Correct Marks : 1 Wrong Marks : 0.25

एक वर्ग तथा आयत का क्षेत्रफल बराबर है। आयत की लम्बाई वर्ग की भुजा से 15 से.मी. अधिक है तथा उसकी चौड़ाई वर्ग की भुजा से 5 से.मी. कम है। आयत का क्षेत्रफल क्या है?

Options :

1. ✔ 56.75 से.मी.<sup>2</sup>
2. ✘ 51.75 से.मी.<sup>2</sup>
3. ✘ 58.5 से.मी.<sup>2</sup>
4. ✘ 48.75 से.मी.<sup>2</sup>

Question Number : 115 Question Id : 5459275973 Question Type : MCQ Option Shuffling : Yes Display Question Number : Yes  
Single Line Question Option : No Option Orientation : Vertical

Correct Marks : 1 Wrong Marks : 0.25

The table given below shows the number of pair of shoes sold on different days of a week.

Days	Number of pair of shoes
D1	184
D2	192
D3	198
D4	214
D5	234
D6	252
D7	268

What is the average number of pair of shoes sold per day?

Options :

- ✓ 220.28
- ✗ 218.28
- ✗ 224.28
- ✗ 212.28

Question Number : 115 Question Id : 5459275973 Question Type : MCQ Option Shuffling : Yes Display Question Number : Yes Single Line Question Option : No Option Orientation : Vertical

Correct Marks : 1 Wrong Marks : 0.25

नीचे दी गयी तालिका हफ्ते के विभिन्न दिनों पर बेचे गये जूते की जोड़ी की संख्या को दर्शाती है।

दिन	जूते के युग्म की संख्या
D1	184
D2	192
D3	198
D4	214
D5	234
D6	252
D7	268

प्रतिदिन बेचे गये जूते की जोड़ियों की औसत संख्या क्या है?

Options :

- ✓ 220.28
- ✗ 218.28
- ✗ 224.28
- ✗ 212.28

Question Number : 116 Question Id : 5459275974 Question Type : MCQ Option Shuffling : Yes Display Question Number : Yes Single Line Question Option : No Option Orientation : Vertical

Correct Marks : 1 Wrong Marks : 0.25

The table given below shows the number of bottles collected by different men.

Man	Number of bottles
G1	120
G2	138
G3	156
G4	128
G5	176

The number of bottles collected by G5 is what percent more than the number of bottles collected by G1?

Options :

- ✘ 6.66 percent
- ✘ 26.66 percent
- ✔ 46.66 percent
- ✘ 66.66 percent

Question Number : 116 Question Id : 5459275974 Question Type : MCQ Option Shuffling : Yes Display Question Number : Yes Single Line Question Option : No Option Orientation : Vertical

Correct Marks : 1 Wrong Marks : 0.25

नीचे दी गयी तालिका विभिन्न पुरुषों द्वारा जमा की गयी बोतलों की संख्या को दर्शाती है।

पुरुष	बोतलों की संख्या
G1	120
G2	138
G3	156
G4	128
G5	176

G5 द्वारा जमा की गयी बोतलों की संख्या G1 द्वारा जमा की गयी बोतलों की संख्या का कितना प्रतिशत है?

Options :

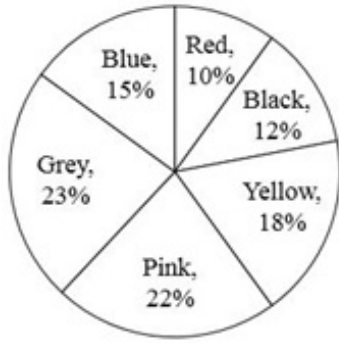
- ✘ 6.66 प्रतिशत
- ✘ 26.66 प्रतिशत
- ✔ 46.66 प्रतिशत
- ✘ 66.66 प्रतिशत

Question Number : 117 Question Id : 5459275975 Question Type : MCQ Option Shuffling : Yes Display Question Number : Yes Single Line Question Option : No Option Orientation : Vertical

Correct Marks : 1 Wrong Marks : 0.25



The pie chart given below shows the number of shoes of different colours in an almirah. The number is shown as a percentage of total number of shoes in the almirah.



What is the central angle subtended by a sector for red coloured shoes?

Options :

- ✘  $30^\circ$
- ✘  $16^\circ$
- ✘  $24^\circ$
- ✔  $36^\circ$

Question Number : 117 Question Id : 5459275975 Question Type : MCQ Option Shuffling : Yes Display Question Number : Yes Single Line Question Option : No Option Orientation : Vertical

Correct Marks : 1 Wrong Marks : 0.25

नीचे दिया गया वृत्त चित्र अलमारी में विभिन्न रंगों के जूतों की संख्या को दर्शाता है। संख्या को अलमारी में जूतों की कुल संख्या के प्रतिशत के रूप में दर्शाया गया है।



लाल रंग के जूतों द्वारा बनाया गया केंद्रीय कोण क्या है?

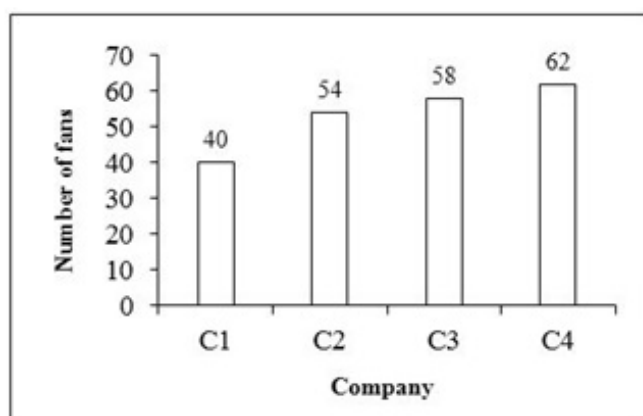
Options :

- ✘  $30^\circ$
- ✘  $16^\circ$
- ✘  $24^\circ$
- ✔  $36^\circ$

Question Number : 118 Question Id : 5459275976 Question Type : MCQ Option Shuffling : Yes Display Question Number : Yes Single Line Question Option : No Option Orientation : Vertical

Correct Marks : 1 Wrong Marks : 0.25

The bar graph given below shows the number of fans of different companies sold by a shopkeeper.



What are the total number of fans sold by the shopkeeper?

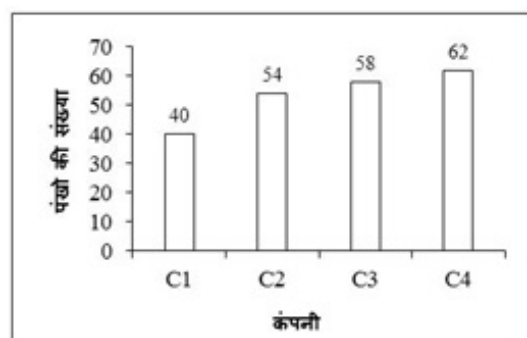
Options :

- ✓ 214
- ✗ 216
- ✗ 218
- ✗ 220

Question Number : 118 Question Id : 5459275976 Question Type : MCQ Option Shuffling : Yes Display Question Number : Yes Single Line Question Option : No Option Orientation : Vertical

Correct Marks : 1 Wrong Marks : 0.25

नीचे दिया गया दण्ड चित्र में एक दुकानदार द्वारा विभिन्न कंपनियों के बेचे गए पंखों की संख्या को दर्शाता है।



दुकानदार द्वारा बेचे गये पंखों की कुल संख्या क्या है?

Options :

- ✓ 214
- ✗ 216
- ✗ 218
- ✗ 220

Question Number : 119 Question Id : 5459275977 Question Type : MCQ Option Shuffling : Yes Display Question Number : Yes Single Line Question Option : No Option Orientation : Vertical

Correct Marks : 1 Wrong Marks : 0.25

The line graph given below shows the number of females attending different yoga classes.



The number of females attending Y5 is what percent less than the total females attending Y1 and Y4?

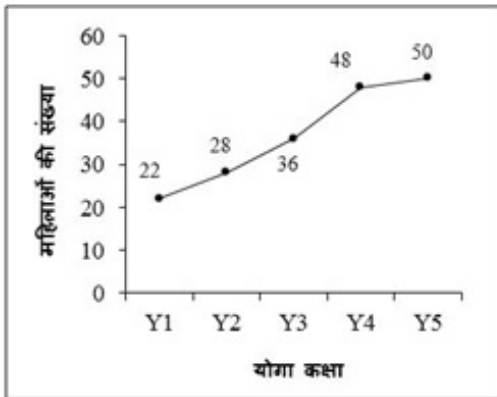
Options :

- ✘ 16.57 percent
- ✘ 20.57 percent
- ✘ 24.57 percent
- ✔ 28.57 percent

Question Number : 119 Question Id : 5459275977 Question Type : MCQ Option Shuffling : Yes Display Question Number : Yes Single Line Question Option : No Option Orientation : Vertical

Correct Marks : 1 Wrong Marks : 0.25

नीचे दिया गया रेखा चित्र विभिन्न योगा क्लास में शामिल महिलाओं की संख्या को दर्शाता है।



Y5 में शामिल महिलाओं की संख्या Y1 तथा Y4 में शामिल कुल महिला से कितना प्रतिशत कम है?

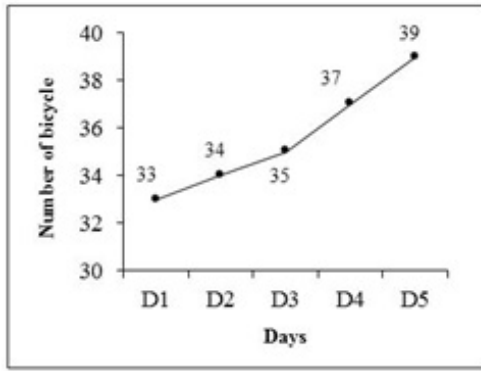
Options :

- ✘ 16.57 प्रतिशत
- ✘ 20.57 प्रतिशत
- ✘ 24.57 प्रतिशत
- ✔ 28.57 प्रतिशत

Question Number : 120 Question Id : 5459275978 Question Type : MCQ Option Shuffling : Yes Display Question Number : Yes Single Line Question Option : No Option Orientation : Vertical

Correct Marks : 1 Wrong Marks : 0.25

The line graph given below shows the number of bicycles repaired by a mechanic on different days of a week.



The number of bicycles repaired on D1 is how much percent less than the bicycles repaired on D5?

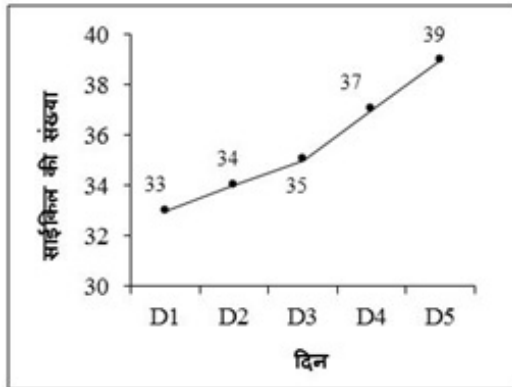
Options :

- ✘ 10.38 percent
- ✔ 15.38 percent
- ✘ 20.38 percent
- ✘ 25.38 percent

Question Number : 120 Question Id : 5459275978 Question Type : MCQ Option Shuffling : Yes Display Question Number : Yes Single Line Question Option : No Option Orientation : Vertical

Correct Marks : 1 Wrong Marks : 0.25

नीचे दिया गया रेखा चित्र हफ्ते के विभिन्न दिनों पर एक मैकेनिक द्वारा मरम्मत साईकिल की संख्या को दर्शाता है।



D1 में मरम्मत की गयी साईकिलों की संख्या, D5 में मरम्मत की गयी साईकिलों की संख्या से कितना प्रतिशत कम है?

Options :

- ✘ 10.38 प्रतिशत
- ✔ 15.38 प्रतिशत
- ✘ 20.38 प्रतिशत
- ✘ 25.38 प्रतिशत

General English1

Group Number :	7
Group Id :	545927297
Group Maximum Duration :	0
Group Minimum Duration :	0
Revisit allowed for view? :	No
Revisit allowed for edit? :	No

<b>Break time:</b>	0
<b>Group Marks:</b>	20
<b>Revisit allowed for group Instructions? :</b>	Yes
<b>Maximum Instruction Time:</b>	0
<b>Minimum Instruction Time:</b>	0

### General English1

<b>Section Id :</b>	545927297
<b>Section Number :</b>	1
<b>Section type :</b>	Online
<b>Mandatory or Optional:</b>	Mandatory
<b>Number of Questions:</b>	20
<b>Number of Questions to be attempted:</b>	20
<b>Section Marks:</b>	20
<b>Display Number Panel:</b>	Yes
<b>Group All Questions:</b>	No

<b>Sub-Section Number:</b>	1
<b>Sub-Section Id:</b>	545927355
<b>Question Shuffling Allowed :</b>	Yes

**Question Number : 121 Question Id : 5459275979 Question Type : MCQ Option Shuffling : Yes Display Question Number : Yes Single Line Question Option : No Option Orientation : Vertical**

**Correct Marks : 1 Wrong Marks : 0.25**

Find the part of the given sentence that has an error in it. If there is no error, choose 'No error'.

Radha (1) / refuse to go (2) / to the party yesterday (3) /. No error (4)

**Options :**

1. ✘ 1
2. ✔ 2
3. ✘ 3
4. ✘ 4

**Question Number : 121 Question Id : 5459275979 Question Type : MCQ Option Shuffling : Yes Display Question Number : Yes Single Line Question Option : No Option Orientation : Vertical**

**Correct Marks : 1 Wrong Marks : 0.25**

Find the part of the given sentence that has an error in it. If there is no error, choose 'No error'.

Radha (1) / refuse to go (2) / to the party yesterday (3) /. No error (4)

**Options :**

1. ✘ 1
2. ✔ 2
3. ✘ 3
4. ✘ 4

**Question Number : 122 Question Id : 5459275980 Question Type : MCQ Option Shuffling : Yes Display Question Number : Yes Single Line Question Option : No Option Orientation : Vertical**

**Correct Marks : 1 Wrong Marks : 0.25**

Find the part of the given sentence that has an error in it. If there is no error, choose 'No error'.

I shall (1) / be late for (2) today meeting (3) /. No error (4)

Options :

1. ✘ 1
2. ✘ 2
3. ✔ 3
4. ✘ 4

Question Number : 122 Question Id : 5459275980 Question Type : MCQ Option Shuffling : Yes Display Question Number : Yes  
Single Line Question Option : No Option Orientation : Vertical

Correct Marks : 1 Wrong Marks : 0.25

Find the part of the given sentence that has an error in it. If there is no error, choose 'No error'.

I shall (1) / be late for (2) today meeting (3) /. No error (4)

Options :

1. ✘ 1
2. ✘ 2
3. ✔ 3
4. ✘ 4

Question Number : 123 Question Id : 5459275981 Question Type : MCQ Option Shuffling : Yes Display Question Number : Yes  
Single Line Question Option : No Option Orientation : Vertical

Correct Marks : 1 Wrong Marks : 0.25

Find the part of the given sentence that has an error in it. If there is no error, choose 'No error'.

One should (1) / fulfil one's (2) / promises (3) / No error (4)

Options :

1. ✘ 1
2. ✘ 2
3. ✘ 3
4. ✔ 4

Question Number : 123 Question Id : 5459275981 Question Type : MCQ Option Shuffling : Yes Display Question Number : Yes  
Single Line Question Option : No Option Orientation : Vertical

Correct Marks : 1 Wrong Marks : 0.25

Find the part of the given sentence that has an error in it. If there is no error, choose 'No error'.

One should (1) / fulfil one's (2) / promises (3) / No error (4)

Options :

1. ✘ 1
2. ✘ 2
3. ✘ 3
4. ✔ 4

Question Number : 124 Question Id : 5459275982 Question Type : MCQ Option Shuffling : Yes Display Question Number : Yes  
Single Line Question Option : No Option Orientation : Vertical

Correct Marks : 1 Wrong Marks : 0.25

Find the part of the given sentence that has an error in it. If there is no error, choose 'No error'.

Till the end (1) / of June my (2) / results will be out (3) /. No error

Options :

1. ✓ 1
2. ✗ 2
3. ✗ 3
4. ✗ 4

Question Number : 124 Question Id : 5459275982 Question Type : MCQ Option Shuffling : Yes Display Question Number : Yes  
Single Line Question Option : No Option Orientation : Vertical

Correct Marks : 1 Wrong Marks : 0.25

Find the part of the given sentence that has an error in it. If there is no error, choose 'No error'.

Till the end (1) / of June my (2) / results will be out (3) /. No error

Options :

1. ✓ 1
2. ✗ 2
3. ✗ 3
4. ✗ 4

Question Number : 125 Question Id : 5459275983 Question Type : MCQ Option Shuffling : Yes Display Question Number : Yes  
Single Line Question Option : No Option Orientation : Vertical

Correct Marks : 1 Wrong Marks : 0.25

Find the part of the given sentence that has an error in it. If there is no error, choose 'No error'.

Not only Sanya / (1) and also Sam (2) / has failed the examination (3) /. No error (4)

Options :

1. ✗ 1
2. ✓ 2
3. ✗ 3
4. ✗ 4

Question Number : 125 Question Id : 5459275983 Question Type : MCQ Option Shuffling : Yes Display Question Number : Yes  
Single Line Question Option : No Option Orientation : Vertical

Correct Marks : 1 Wrong Marks : 0.25

Find the part of the given sentence that has an error in it. If there is no error, choose 'No error'.

Not only Sanya / (1) and also Sam (2) / has failed the examination (3) /. No error (4)

Options :

1. ✗ 1
2. ✓ 2
3. ✗ 3
4. ✗ 4

Question Number : 126 Question Id : 5459275984 Question Type : MCQ Option Shuffling : Yes Display Question Number : Yes  
Single Line Question Option : No Option Orientation : Vertical

Correct Marks : 1 Wrong Marks : 0.25

Improve the bracketed part of the sentence.

(Since) he got home last night is still a mystery to me.

Options :

1. ✓ How

2. ✘ Although
3. ✘ While
4. ✘ No Improvement

Question Number : 126 Question Id : 5459275984 Question Type : MCQ Option Shuffling : Yes Display Question Number : Yes  
Single Line Question Option : No Option Orientation : Vertical

Correct Marks : 1 Wrong Marks : 0.25

Improve the bracketed part of the sentence.

(Since) he got home last night is still a mystery to me.

Options :

1. ✔ How
2. ✘ Although
3. ✘ While
4. ✘ No Improvement

Question Number : 127 Question Id : 5459275985 Question Type : MCQ Option Shuffling : Yes Display Question Number : Yes  
Single Line Question Option : No Option Orientation : Vertical

Correct Marks : 1 Wrong Marks : 0.25

Improve the bracketed part of the sentence.

He denied that he (had not forged) my signature.

Options :

1. ✘ forged
2. ✔ had forged
3. ✘ did not forge
4. ✘ No Improvement

Question Number : 127 Question Id : 5459275985 Question Type : MCQ Option Shuffling : Yes Display Question Number : Yes  
Single Line Question Option : No Option Orientation : Vertical

Correct Marks : 1 Wrong Marks : 0.25

Improve the bracketed part of the sentence.

He denied that he (had not forged) my signature.

Options :

1. ✘ forged
2. ✔ had forged
3. ✘ did not forge
4. ✘ No Improvement

Question Number : 128 Question Id : 5459275986 Question Type : MCQ Option Shuffling : Yes Display Question Number : Yes  
Single Line Question Option : No Option Orientation : Vertical

Correct Marks : 1 Wrong Marks : 0.25

Improve the bracketed part of the sentence.

Due to emergency conditions, the army was asked to stand (up).

Options :

1. ✔ by
2. ✘ out
3. ✘ in



4. ✘ No Improvement

Question Number : 128 Question Id : 5459275986 Question Type : MCQ Option Shuffling : Yes Display Question Number : Yes  
Single Line Question Option : No Option Orientation : Vertical

Correct Marks : 1 Wrong Marks : 0.25

Improve the bracketed part of the sentence.

Due to emergency conditions, the army was asked to stand (up).

Options :

1. ✔ by
2. ✘ out
3. ✘ in
4. ✘ No Improvement

Question Number : 129 Question Id : 5459275987 Question Type : MCQ Option Shuffling : Yes Display Question Number : Yes  
Single Line Question Option : No Option Orientation : Vertical

Correct Marks : 1 Wrong Marks : 0.25

Improve the bracketed part of the sentence.

She hurt her back while she (worked) yesterday.

Options :

1. ✘ worked out
2. ✔ was working
3. ✘ had worked
4. ✘ No Improvement

Question Number : 129 Question Id : 5459275987 Question Type : MCQ Option Shuffling : Yes Display Question Number : Yes  
Single Line Question Option : No Option Orientation : Vertical

Correct Marks : 1 Wrong Marks : 0.25

Improve the bracketed part of the sentence.

She hurt her back while she (worked) yesterday.

Options :

1. ✘ worked out
2. ✔ was working
3. ✘ had worked
4. ✘ No Improvement

Question Number : 130 Question Id : 5459275988 Question Type : MCQ Option Shuffling : Yes Display Question Number : Yes  
Single Line Question Option : No Option Orientation : Vertical

Correct Marks : 1 Wrong Marks : 0.25

Improve the bracketed part of the sentence.

The police filed a case (to) the car driver for wrong parking.

Options :

1. ✘ for
2. ✔ against
3. ✘ by
4. ✘ No Improvement

Question Number : 130 Question Id : 5459275988 Question Type : MCQ Option Shuffling : Yes Display Question Number : Yes  
Single Line Question Option : No Option Orientation : Vertical

Correct Marks : 1 Wrong Marks : 0.25

Improve the bracketed part of the sentence.

The police filed a case (to) the car driver for wrong parking.

Options :

1. ✘ for
2. ✔ against
3. ✘ by
4. ✘ No Improvement

Question Number : 131 Question Id : 5459275989 Question Type : MCQ Option Shuffling : Yes Display Question Number : Yes  
Single Line Question Option : No Option Orientation : Vertical

Correct Marks : 1 Wrong Marks : 0.25

A sentence has been given with a blank to be filled with an appropriate word. Choose the correct alternative.

Sarthak \_\_\_\_\_ the first prize in yesterday's race.

Options :

1. ✘ win
2. ✘ wins
3. ✔ won
4. ✘ have won

Question Number : 131 Question Id : 5459275989 Question Type : MCQ Option Shuffling : Yes Display Question Number : Yes  
Single Line Question Option : No Option Orientation : Vertical

Correct Marks : 1 Wrong Marks : 0.25

A sentence has been given with a blank to be filled with an appropriate word. Choose the correct alternative.

Sarthak \_\_\_\_\_ the first prize in yesterday's race.

Options :

1. ✘ win
2. ✘ wins
3. ✔ won
4. ✘ have won

Question Number : 132 Question Id : 5459275990 Question Type : MCQ Option Shuffling : Yes Display Question Number : Yes  
Single Line Question Option : No Option Orientation : Vertical

Correct Marks : 1 Wrong Marks : 0.25

A sentence has been given with a blank to be filled with an appropriate word. Choose the correct alternative.

Sam is not in a mood \_\_\_\_\_ studying.

Options :

1. ✔ of
2. ✘ to
3. ✘ in
4. ✘ with

Question Number : 132 Question Id : 5459275990 Question Type : MCQ Option Shuffling : Yes Display Question Number : Yes  
Single Line Question Option : No Option Orientation : Vertical

Correct Marks : 1 Wrong Marks : 0.25

A sentence has been given with a blank to be filled with an appropriate word. Choose the correct alternative.

Sam is not in a mood \_\_\_\_\_ studying.

Options :

1. ✓ of
2. ✗ to
3. ✗ in
4. ✗ with

Question Number : 133 Question Id : 5459275991 Question Type : MCQ Option Shuffling : Yes Display Question Number : Yes  
Single Line Question Option : No Option Orientation : Vertical

Correct Marks : 1 Wrong Marks : 0.25

A sentence has been given with a blank to be filled with an appropriate word. Choose the correct alternative.

She told her dentist to take \_\_\_\_\_ the bad tooth.

Options :

1. ✗ over
2. ✗ up
3. ✓ out
4. ✗ along

Question Number : 133 Question Id : 5459275991 Question Type : MCQ Option Shuffling : Yes Display Question Number : Yes  
Single Line Question Option : No Option Orientation : Vertical

Correct Marks : 1 Wrong Marks : 0.25

A sentence has been given with a blank to be filled with an appropriate word. Choose the correct alternative.

She told her dentist to take \_\_\_\_\_ the bad tooth.

Options :

1. ✗ over
2. ✗ up
3. ✓ out
4. ✗ along

Question Number : 134 Question Id : 5459275992 Question Type : MCQ Option Shuffling : Yes Display Question Number : Yes  
Single Line Question Option : No Option Orientation : Vertical

Correct Marks : 1 Wrong Marks : 0.25

A sentence has been given with a blank to be filled with an appropriate word. Choose the correct alternative.

This work needs time \_\_\_\_\_ patience.

Options :

1. ✗ but
2. ✗ also
3. ✗ because
4. ✓ and

Question Number : 134 Question Id : 5459275992 Question Type : MCQ Option Shuffling : Yes Display Question Number : Yes  
Single Line Question Option : No Option Orientation : Vertical

Correct Marks : 1 Wrong Marks : 0.25

A sentence has been given with a blank to be filled with an appropriate word. Choose the correct alternative.

This work needs time \_\_\_\_\_ patience.

Options :

1. ✘ but
2. ✘ also
3. ✘ because
4. ✔ and

Question Number : 135 Question Id : 5459275993 Question Type : MCQ Option Shuffling : Yes Display Question Number : Yes  
Single Line Question Option : No Option Orientation : Vertical

Correct Marks : 1 Wrong Marks : 0.25

A sentence has been given with a blank to be filled with an appropriate word. Choose the correct alternative.

It needs to be \_\_\_\_\_ with great care.

Options :

1. ✘ do
2. ✔ done
3. ✘ doing
4. ✘ did

Question Number : 135 Question Id : 5459275993 Question Type : MCQ Option Shuffling : Yes Display Question Number : Yes  
Single Line Question Option : No Option Orientation : Vertical

Correct Marks : 1 Wrong Marks : 0.25

A sentence has been given with a blank to be filled with an appropriate word. Choose the correct alternative.

It needs to be \_\_\_\_\_ with great care.

Options :

1. ✘ do
2. ✔ done
3. ✘ doing
4. ✘ did

Question Number : 136 Question Id : 5459275994 Question Type : MCQ Option Shuffling : Yes Display Question Number : Yes  
Single Line Question Option : No Option Orientation : Vertical

Correct Marks : 1 Wrong Marks : 0.25

A sentence has been given with a blank to be filled with an appropriate word. Choose the correct alternative.

It is impossible to \_\_\_\_\_ without air.

Options :

1. ✘ lived
2. ✘ lives
3. ✘ living
4. ✔ live

Question Number : 136 Question Id : 5459275994 Question Type : MCQ Option Shuffling : Yes Display Question Number : Yes  
Single Line Question Option : No Option Orientation : Vertical

Correct Marks : 1 Wrong Marks : 0.25

A sentence has been given with a blank to be filled with an appropriate word. Choose the correct alternative.

It is impossible to \_\_\_\_\_ without air.

Options :

1. ✘ lived

2. ✘ lives
3. ✘ living
4. ✔ live

Question Number : 137 Question Id : 5459275995 Question Type : MCQ Option Shuffling : Yes Display Question Number : Yes  
Single Line Question Option : No Option Orientation : Vertical

Correct Marks : 1 Wrong Marks : 0.25

A sentence has been given with a blank to be filled with an appropriate word. Choose the correct alternative.

They were stupid \_\_\_\_\_ forget the ID cards.

Options :

1. ✘ of
2. ✔ to
3. ✘ with
4. ✘ in

Question Number : 137 Question Id : 5459275995 Question Type : MCQ Option Shuffling : Yes Display Question Number : Yes  
Single Line Question Option : No Option Orientation : Vertical

Correct Marks : 1 Wrong Marks : 0.25

A sentence has been given with a blank to be filled with an appropriate word. Choose the correct alternative.

They were stupid \_\_\_\_\_ forget the ID cards.

Options :

1. ✘ of
2. ✔ to
3. ✘ with
4. ✘ in

Question Number : 138 Question Id : 5459275996 Question Type : MCQ Option Shuffling : Yes Display Question Number : Yes  
Single Line Question Option : No Option Orientation : Vertical

Correct Marks : 1 Wrong Marks : 0.25

A sentence has been given with a blank to be filled with an appropriate word. Choose the correct alternative.

She dare not \_\_\_\_\_ the child.

Options :

1. ✔ punish
2. ✘ punishes
3. ✘ punished
4. ✘ punishing

Question Number : 138 Question Id : 5459275996 Question Type : MCQ Option Shuffling : Yes Display Question Number : Yes  
Single Line Question Option : No Option Orientation : Vertical

Correct Marks : 1 Wrong Marks : 0.25

A sentence has been given with a blank to be filled with an appropriate word. Choose the correct alternative.

She dare not \_\_\_\_\_ the child.

Options :

1. ✔ punish
2. ✘ punishes
3. ✘ punished

4. ✘ punishing

**Question Number : 139 Question Id : 5459275997 Question Type : MCQ Option Shuffling : Yes Display Question Number : Yes Single Line Question Option : No Option Orientation : Vertical**

**Correct Marks : 1 Wrong Marks : 0.25**

The question below consists of a set of labeled sentences. Out of the four options given, select the most logical order of the sentences to form a coherent paragraph.

P: because our school had shown

R: last Wednesday,

Q: our headmaster gave us a holiday

S: brilliant results in the High School Examination

**Options :**

1. ✘ PSRQ

2. ✘ PQRS

3. ✘ QSRP

4. ✔ RQPS

**Question Number : 139 Question Id : 5459275997 Question Type : MCQ Option Shuffling : Yes Display Question Number : Yes Single Line Question Option : No Option Orientation : Vertical**

**Correct Marks : 1 Wrong Marks : 0.25**

The question below consists of a set of labeled sentences. Out of the four options given, select the most logical order of the sentences to form a coherent paragraph.

P: because our school had shown

R: last Wednesday,

Q: our headmaster gave us a holiday

S: brilliant results in the High School Examination

**Options :**

1. ✘ PSRQ

2. ✘ PQRS

3. ✘ QSRP

4. ✔ RQPS

**Question Number : 140 Question Id : 5459275998 Question Type : MCQ Option Shuffling : Yes Display Question Number : Yes Single Line Question Option : No Option Orientation : Vertical**

**Correct Marks : 1 Wrong Marks : 0.25**

The question below consists of a set of labeled sentences. Out of the four options given, select the most logical order of the sentences to form a coherent paragraph.

P: deal of noise and in the

Q: confusion I could hardly

R: make out the cause of quarrel

S: the people were making a great

**Options :**

1. ✔ SPQR

2. ✘ PQRS

3. ✘ SRQP

4. ✘ SPRQ

**Question Number : 140 Question Id : 5459275998 Question Type : MCQ Option Shuffling : Yes Display Question Number : Yes Single Line Question Option : No Option Orientation : Vertical**

**Correct Marks : 1 Wrong Marks : 0.25**

The question below consists of a set of labeled sentences. Out of the four options given, select the most logical order of the sentences to form a coherent paragraph.

P: deal of noise and in the  
Q: confusion I could hardly  
R: make out the cause of quarrel  
S: the people were making a great

Options :

1. ✓ SPQR
2. ✗ PQRS
3. ✗ SRQP
4. ✗ SPRQ

### General English2

Group Number :	8
Group Id :	545927298
Group Maximum Duration :	0
Group Minimum Duration :	0
Revisit allowed for view? :	No
Revisit allowed for edit? :	No
Break time:	0
Group Marks:	20
Revisit allowed for group Instructions? :	Yes
Maximum Instruction Time:	0
Minimum Instruction Time:	0

### General English2

Section Id :	545927298
Section Number :	1
Section type :	Online
Mandatory or Optional:	Mandatory
Number of Questions:	16
Number of Questions to be attempted:	16
Section Marks:	20
Display Number Panel:	Yes
Group All Questions:	No

Sub-Section Number:	1
Sub-Section Id:	545927356
Question Shuffling Allowed :	Yes

Question Number : 141 Question Id : 5459275999 Question Type : MCQ Option Shuffling : Yes Display Question Number : Yes  
Single Line Question Option : No Option Orientation : Vertical  
Correct Marks : 1 Wrong Marks : 0.25

The question below consists of a set of labeled sentences. Out of the four options given, select the most logical order of the sentences to form a coherent paragraph.

P: but a closer analysis would reveal that adversity has its own advantages.

Q: everybody wants to live in joy, peace and plenty.

R: nobody wants to fall in the grip of adversity.

S: normally adversity is a dreaded thing.

Options :

1. ✘ PQRS

2. ✘ QRSP

3. ✔ SRQP

4. ✘ SQRP

Question Number : 141 Question Id : 5459275999 Question Type : MCQ Option Shuffling : Yes Display Question Number : Yes Single Line Question Option : No Option Orientation : Vertical

Correct Marks : 1 Wrong Marks : 0.25

The question below consists of a set of labeled sentences. Out of the four options given, select the most logical order of the sentences to form a coherent paragraph.

P: but a closer analysis would reveal that adversity has its own advantages.

Q: everybody wants to live in joy, peace and plenty.

R: nobody wants to fall in the grip of adversity.

S: normally adversity is a dreaded thing.

Options :

1. ✘ PQRS

2. ✘ QRSP

3. ✔ SRQP

4. ✘ SQRP

Question Number : 142 Question Id : 5459276000 Question Type : MCQ Option Shuffling : Yes Display Question Number : Yes Single Line Question Option : No Option Orientation : Vertical

Correct Marks : 1 Wrong Marks : 0.25

Choose the word that is opposite in meaning to the given word.

Separate

Options :

1. ✘ Part

2. ✔ Conjoin

3. ✘ Apart

4. ✘ Divided

Question Number : 142 Question Id : 5459276000 Question Type : MCQ Option Shuffling : Yes Display Question Number : Yes Single Line Question Option : No Option Orientation : Vertical

Correct Marks : 1 Wrong Marks : 0.25

Choose the word that is opposite in meaning to the given word.

Separate

Options :

1. ✘ Part

2. ✔ Conjoin

3. ✘ Apart



4. ✘ Divided

Question Number : 143 Question Id : 5459276001 Question Type : MCQ Option Shuffling : Yes Display Question Number : Yes  
Single Line Question Option : No Option Orientation : Vertical

Correct Marks : 1 Wrong Marks : 0.25

Choose the word that means the same as the given word.

Alien

Options :

1. ✔ Foreigner
2. ✘ Known
3. ✘ Companion
4. ✘ Native

Question Number : 143 Question Id : 5459276001 Question Type : MCQ Option Shuffling : Yes Display Question Number : Yes  
Single Line Question Option : No Option Orientation : Vertical

Correct Marks : 1 Wrong Marks : 0.25

Choose the word that means the same as the given word.

Alien

Options :

1. ✔ Foreigner
2. ✘ Known
3. ✘ Companion
4. ✘ Native

Question Number : 144 Question Id : 5459276002 Question Type : MCQ Option Shuffling : Yes Display Question Number : Yes  
Single Line Question Option : No Option Orientation : Vertical

Correct Marks : 1 Wrong Marks : 0.25

Choose the word that means the same as the given word.

Condemn

Options :

1. ✘ Abolish
2. ✘ Praise
3. ✘ Grow
4. ✔ Blame

Question Number : 144 Question Id : 5459276002 Question Type : MCQ Option Shuffling : Yes Display Question Number : Yes  
Single Line Question Option : No Option Orientation : Vertical

Correct Marks : 1 Wrong Marks : 0.25

Choose the word that means the same as the given word.

Condemn

Options :

1. ✘ Abolish
2. ✘ Praise
3. ✘ Grow
4. ✔ Blame

Question Number : 145 Question Id : 5459276003 Question Type : MCQ Option Shuffling : Yes Display Question Number : Yes  
Single Line Question Option : No Option Orientation : Vertical

Correct Marks : 1 Wrong Marks : 0.25

Choose the word that means the same as the given word.

Disclaim

Options :

1. ✘ Spend
2. ✘ Defray
3. ✔ Repudiate
4. ✘ Follow

Question Number : 145 Question Id : 5459276003 Question Type : MCQ Option Shuffling : Yes Display Question Number : Yes  
Single Line Question Option : No Option Orientation : Vertical

Correct Marks : 1 Wrong Marks : 0.25

Choose the word that means the same as the given word.

Disclaim

Options :

1. ✘ Spend
2. ✘ Defray
3. ✔ Repudiate
4. ✘ Follow

Question Number : 146 Question Id : 5459276004 Question Type : MCQ Option Shuffling : Yes Display Question Number : Yes  
Single Line Question Option : No Option Orientation : Vertical

Correct Marks : 1 Wrong Marks : 0.25

Choose the word that is opposite in meaning to the given word.

Quarrel

Options :

1. ✘ Dissension
2. ✔ Accord
3. ✘ Strife
4. ✘ Believe

Question Number : 146 Question Id : 5459276004 Question Type : MCQ Option Shuffling : Yes Display Question Number : Yes  
Single Line Question Option : No Option Orientation : Vertical

Correct Marks : 1 Wrong Marks : 0.25

Choose the word that is opposite in meaning to the given word.

Quarrel

Options :

1. ✘ Dissension
2. ✔ Accord
3. ✘ Strife
4. ✘ Believe

Question Number : 147 Question Id : 5459276005 Question Type : MCQ Option Shuffling : Yes Display Question Number : Yes  
Single Line Question Option : No Option Orientation : Vertical

Correct Marks : 1 Wrong Marks : 0.25

In the given question, four words are given out of which one word is correctly spelt. Choose the correctly spelt word.

Options :

1. ✘ Occurence
2. ✔ Occurrence
3. ✘ Occurance
4. ✘ Ocurrence

Question Number : 147 Question Id : 5459276005 Question Type : MCQ Option Shuffling : Yes Display Question Number : Yes  
Single Line Question Option : No Option Orientation : Vertical

Correct Marks : 1 Wrong Marks : 0.25

In the given question, four words are given out of which one word is correctly spelt. Choose the correctly spelt word.

Options :

1. ✘ Occurence
2. ✔ Occurrence
3. ✘ Occurance
4. ✘ Ocurrence

Question Number : 148 Question Id : 5459276006 Question Type : MCQ Option Shuffling : Yes Display Question Number : Yes  
Single Line Question Option : No Option Orientation : Vertical

Correct Marks : 1 Wrong Marks : 0.25

In the given question, four words are given out of which one word is correctly spelt. Choose the correctly spelt word.

Options :

1. ✔ Calendar
2. ✘ Kalendar
3. ✘ Calender
4. ✘ Calander

Question Number : 148 Question Id : 5459276006 Question Type : MCQ Option Shuffling : Yes Display Question Number : Yes  
Single Line Question Option : No Option Orientation : Vertical

Correct Marks : 1 Wrong Marks : 0.25

In the given question, four words are given out of which one word is correctly spelt. Choose the correctly spelt word.

Options :

1. ✔ Calendar
2. ✘ Kalendar
3. ✘ Calender
4. ✘ Calander

Question Number : 149 Question Id : 5459276007 Question Type : MCQ Option Shuffling : Yes Display Question Number : Yes  
Single Line Question Option : No Option Orientation : Vertical

Correct Marks : 1 Wrong Marks : 0.25

In the given question, four words are given out of which one word is correctly spelt. Choose the correctly spelt word.

Options :

1. ✘ Etheist
2. ✘ Athiest

3. ✓ Atheist
4. ✗ Atheast

Question Number : 149 Question Id : 5459276007 Question Type : MCQ Option Shuffling : Yes Display Question Number : Yes  
Single Line Question Option : No Option Orientation : Vertical

Correct Marks : 1 Wrong Marks : 0.25

In the given question, four words are given out of which one word is correctly spelt. Choose the correctly spelt word.

Options :

1. ✗ Etheist
2. ✗ Athiest
3. ✓ Atheist
4. ✗ Atheast

Question Number : 150 Question Id : 5459276008 Question Type : MCQ Option Shuffling : Yes Display Question Number : Yes  
Single Line Question Option : No Option Orientation : Vertical

Correct Marks : 1 Wrong Marks : 0.25

In the following question, out of the given four alternatives, select the alternative which best expresses the meaning of the Idiom/Phrase.

At the eleventh hour

Options :

1. ✓ At the very last moment
2. ✗ Familiar with
3. ✗ Never
4. ✗ Upright

Question Number : 150 Question Id : 5459276008 Question Type : MCQ Option Shuffling : Yes Display Question Number : Yes  
Single Line Question Option : No Option Orientation : Vertical

Correct Marks : 1 Wrong Marks : 0.25

In the following question, out of the given four alternatives, select the alternative which best expresses the meaning of the Idiom/Phrase.

At the eleventh hour

Options :

1. ✓ At the very last moment
2. ✗ Familiar with
3. ✗ Never
4. ✗ Upright

Question Number : 151 Question Id : 5459276009 Question Type : MCQ Option Shuffling : Yes Display Question Number : Yes  
Single Line Question Option : No Option Orientation : Vertical

Correct Marks : 1 Wrong Marks : 0.25

In the following question, out of the given four alternatives, select the alternative which best expresses the meaning of the Idiom/Phrase.

For good

Options :

1. ✗ Deliberately
2. ✗ Completely
3. ✓ Forever

4. ✖ A secret

Question Number : 151 Question Id : 5459276009 Question Type : MCQ Option Shuffling : Yes Display Question Number : Yes  
Single Line Question Option : No Option Orientation : Vertical

Correct Marks : 1 Wrong Marks : 0.25

In the following question, out of the given four alternatives, select the alternative which best expresses the meaning of the Idiom/Phrase.

For good

Options :

1. ✖ Deliberately
2. ✖ Completely
3. ✔ Forever
4. ✖ A secret

Question Number : 152 Question Id : 5459276010 Question Type : MCQ Option Shuffling : Yes Display Question Number : Yes  
Single Line Question Option : No Option Orientation : Vertical

Correct Marks : 1 Wrong Marks : 0.25

In the following question, out of the given four alternatives, select the alternative which best expresses the meaning of the Idiom/Phrase.

Ins and outs

Options :

1. ✔ The details of anything
2. ✖ Approximately
3. ✖ Owing to
4. ✖ Valid

Question Number : 152 Question Id : 5459276010 Question Type : MCQ Option Shuffling : Yes Display Question Number : Yes  
Single Line Question Option : No Option Orientation : Vertical

Correct Marks : 1 Wrong Marks : 0.25

In the following question, out of the given four alternatives, select the alternative which best expresses the meaning of the Idiom/Phrase.

Ins and outs

Options :

1. ✔ The details of anything
2. ✖ Approximately
3. ✖ Owing to
4. ✖ Valid

Question Number : 153 Question Id : 5459276011 Question Type : MCQ Option Shuffling : Yes Display Question Number : Yes  
Single Line Question Option : No Option Orientation : Vertical

Correct Marks : 1 Wrong Marks : 0.25

Choose the word that can substitute the given sentence.

A place where bodies are kept for identification

Options :

1. ✖ Sanatorium
2. ✖ Crematory
3. ✖ Hospital

4. ✓ Morgue

Question Number : 153 Question Id : 5459276011 Question Type : MCQ Option Shuffling : Yes Display Question Number : Yes  
Single Line Question Option : No Option Orientation : Vertical

Correct Marks : 1 Wrong Marks : 0.25

Choose the word that can substitute the given sentence.

A place where bodies are kept for identification

Options :

1. ✗ Sanatorium
2. ✗ Crematory
3. ✗ Hospital
4. ✓ Morgue

Question Number : 154 Question Id : 5459276012 Question Type : MCQ Option Shuffling : Yes Display Question Number : Yes  
Single Line Question Option : No Option Orientation : Vertical

Correct Marks : 1 Wrong Marks : 0.25

Choose the word that can substitute the given sentence.

Government not connected with religious or spiritual matters.

Options :

1. ✓ Secular
2. ✗ Democracy
3. ✗ Anarchy
4. ✗ Theocracy

Question Number : 154 Question Id : 5459276012 Question Type : MCQ Option Shuffling : Yes Display Question Number : Yes  
Single Line Question Option : No Option Orientation : Vertical

Correct Marks : 1 Wrong Marks : 0.25

Choose the word that can substitute the given sentence.

Government not connected with religious or spiritual matters.

Options :

1. ✓ Secular
2. ✗ Democracy
3. ✗ Anarchy
4. ✗ Theocracy

Question Number : 155 Question Id : 5459276013 Question Type : MCQ Option Shuffling : Yes Display Question Number : Yes  
Single Line Question Option : No Option Orientation : Vertical

Correct Marks : 1 Wrong Marks : 0.25

Choose the word that can substitute the given sentence.

Destruction or abortion of a fetus.

Options :

1. ✗ Filicide
2. ✗ Fratricide
3. ✗ Cortege
4. ✓ Foeticide

Question Number : 155 Question Id : 5459276013 Question Type : MCQ Option Shuffling : Yes Display Question Number : Yes  
Single Line Question Option : No Option Orientation : Vertical

Correct Marks : 1 Wrong Marks : 0.25

Choose the word that can substitute the given sentence.

Destruction or abortion of a fetus.

Options :

1. ✘ Filicide
2. ✘ Fratricide
3. ✘ Cortege
4. ✔ Foeticide

Sub-Section Number:	2
Sub-Section Id:	545927357
Question Shuffling Allowed :	Yes

Question Id : 5459276014 Question Type : COMPREHENSION Sub Question Shuffling Allowed : Yes Group Comprehension  
Questions : No

Question Numbers : (156 to 160)

Question Label : Comprehension

Read the following information carefully and answer the given questions.

The first American stock exchange originated in 1792 when 24 brokers wrote and signed the Buttonwood Tree Agreement. The agreement was drafted in response to the lack of organization that plagued the colonial economy. It was the first attempt to regulate the American market. The futures or commodities exchange was a separate trading platform that emerged from the need for regulated trading practices in agricultural communities. This market would not be standardized until 1848 when the Chicago Board of Trade was founded. The futures market facilitates the trade of contract agreements that guarantee the buyer a price for future delivery of goods. Although in many ways, the futures market was more stable than the stock market, early investors were more skeptical of the futures market primarily because it was a ripe environment for speculators to trade and sell. In the 19th century, investors looked down on futures traders, viewing them as market manipulators, who engaged in wanton speculation. These investors did not realize that similar criticisms were levied against the stock market when it was first established in the United States.

At the stock market's inception, wild speculation and price gouging ran rampant in the US economy. Ironically, the early agrarian futures contracts were crucial in maintaining the stability of the US market economy and were specifically designed to reduce the risk for producers. In fact, the very speculators who were so feared by 19th-century investors actually made the market more efficient and kept prices stable. Futures contracts were standardized as to the quantity, quality, location and time of delivery for each commodity that was bought or sold. Both the standardized nature of futures contracts and the haggling over price by speculators, investment risk, guaranteed that the futures contracts would be bought and sold at fair prices. It was only in the 20th century that investors began to understand how the standard mechanisms of the futures markets could also serve the stock market.

Sub questions

Question Number : 156 Question Id : 5459276015 Question Type : MCQ Option Shuffling : Yes Display Question Number : Yes  
Single Line Question Option : No Option Orientation : Vertical

Correct Marks : 1 Wrong Marks : 0.25

Choose a word from the passage which means the same as originated

Options :

1. ✘ Agrarian
2. ✔ Emerged
3. ✘ Regulated
4. ✘ Engaged

Question Number : 157 Question Id : 5459276016 Question Type : MCQ Option Shuffling : Yes Display Question Number : Yes  
Single Line Question Option : No Option Orientation : Vertical

Correct Marks : 1 Wrong Marks : 0.25

Which of the following generalizations regarding trading platforms would the author most likely agree?

Options :

- ✘ The most stable trading platforms are those that trade contracts instead of stocks
- ✘ Some trading platforms were established in order to standardise national trading practices
- ✔ Modern trading platforms do not differ greatly from early trading platforms
- ✘ No option is correct

Question Number : 158 Question Id : 5459276017 Question Type : MCQ Option Shuffling : Yes Display Question Number : Yes  
Single Line Question Option : No Option Orientation : Vertical

Correct Marks : 1 Wrong Marks : 0.25

The author discusses early agrarian future contracts in order to

Options :

- ✘ Illustrate how these contracts contributed to the effectiveness of speculative trading
- ✔ Refute the view that speculation compromised the stability and integrity of the futures market
- ✘ Support the argument that standard mechanisms of futures trading can be applied to the stock market
- ✘ Emphasize the importance of speculation to the stability of the US market economy

Question Number : 159 Question Id : 5459276018 Question Type : MCQ Option Shuffling : Yes Display Question Number : Yes  
Single Line Question Option : No Option Orientation : Vertical

Correct Marks : 1 Wrong Marks : 0.25

Which of the following best states the main point of the passage?

Options :

- ✘ The creation of the stock market in the 18th century provided a model for the emergence of the futures market
- ✘ The success of the futures market like that of the stock market, depended on its ability to prevent speculation
- ✔ The US future market, whose procedures early investors distrusted, actually promoted economic stability
- ✘ The trading mechanisms of the future market are fundamentally the same as those of the stock market

Question Number : 160 Question Id : 5459276019 Question Type : MCQ Option Shuffling : Yes Display Question Number : Yes  
Single Line Question Option : No Option Orientation : Vertical

Correct Marks : 1 Wrong Marks : 0.25

Which of the following statement is false regarding future contracts?

Options :

- ✘ It is concerned with both the bought and sold items
- ✘ It is standardized as to the quality, quantity, location and time of delivery of each commodities
- ✘ These incur investment risks
- ✔ No option is correct

Question Id : 5459276014 Question Type : COMPREHENSION Sub Question Shuffling Allowed : Yes Group Comprehension  
Questions : No

Question Numbers : (156 to 160)

Question Label : Comprehension



Read the following information carefully and answer the given questions.

The first American stock exchange originated in 1792 when 24 brokers wrote and signed the Buttonwood Tree Agreement. The agreement was drafted in response to the lack of organization that plagued the colonial economy. It was the first attempt to regulate the American market. The futures or commodities exchange was a separate trading platform that emerged from the need for regulated trading practices in agricultural communities. This market would not be standardized until 1848 when the Chicago Board of Trade was founded. The futures market facilitates the trade of contract agreements that guarantee the buyer a price for future delivery of goods. Although in many ways, the futures market was more stable than the stock market, early investors were more skeptical of the futures market primarily because it was a ripe environment for speculators to trade and sell. In the 19th century, investors looked down on futures traders, viewing them as market manipulators, who engaged in wanton speculation. These investors did not realize that similar criticisms were levied against the stock market when it was first established in the United States.

At the stock market's inception, wild speculation and price gouging ran rampant in the US economy. Ironically, the early agrarian futures contracts were crucial in maintaining the stability of the US market economy and were specifically designed to reduce the risk for producers. In fact, the very speculators who were so feared by 19th-century investors actually made the market more efficient and kept prices stable. Futures contracts were standardized as to the quantity, quality, location and time of delivery for each commodity that was bought or sold. Both the standardized nature of futures contracts and the haggling over price by speculators, investment risk, guaranteed that the futures contracts would be bought and sold at fair prices. It was only in the 20th century that investors began to understand how the standard mechanisms of the futures markets could also serve the stock market.

#### Sub questions

**Question Number : 156 Question Id : 5459276015 Question Type : MCQ Option Shuffling : Yes Display Question Number : Yes Single Line Question Option : No Option Orientation : Vertical**

**Correct Marks : 1 Wrong Marks : 0.25**

Choose a word from the passage which means the same as originated

**Options :**

1. ✘ Agrarian
2. ✔ Emerged
3. ✘ Regulated
4. ✘ Engaged

**Question Number : 157 Question Id : 5459276016 Question Type : MCQ Option Shuffling : Yes Display Question Number : Yes Single Line Question Option : No Option Orientation : Vertical**

**Correct Marks : 1 Wrong Marks : 0.25**

Which of the following generalizations regarding trading platforms would the author most likely agree?

**Options :**

1. ✘ The most stable trading platforms are those that trade contracts instead of stocks
2. ✘ Some trading platforms were established in order to standardise national trading practices
3. ✔ Modern trading platforms do not differ greatly from early trading platforms
4. ✘ No option is correct

**Question Number : 158 Question Id : 5459276017 Question Type : MCQ Option Shuffling : Yes Display Question Number : Yes Single Line Question Option : No Option Orientation : Vertical**

**Correct Marks : 1 Wrong Marks : 0.25**

The author discusses early agrarian future contracts in order to

**Options :**

1. ✘ Illustrate how these contracts contributed to the effectiveness of speculative trading
2. ✔ Refute the view that speculation compromised the stability and integrity of the futures market
3. ✘ Support the argument that standard mechanisms of futures trading can be applied to the stock market
4. ✘ Emphasize the importance of speculation to the stability of the US market economy

Question Number : 159 Question Id : 5459276018 Question Type : MCQ Option Shuffling : Yes Display Question Number : Yes  
Single Line Question Option : No Option Orientation : Vertical

Correct Marks : 1 Wrong Marks : 0.25

Which of the following best states the main point of the passage?

Options :

- The creation of the stock market in the 18th century provided a model for the emergence of the futures market
- The success of the futures market like that of the stock market, depended on its ability to prevent speculation
- The US future market, whose procedures early investors distrusted, actually promoted economic stability
- The trading mechanisms of the future market are fundamentally the same as those of the stock market

Question Number : 160 Question Id : 5459276019 Question Type : MCQ Option Shuffling : Yes Display Question Number : Yes  
Single Line Question Option : No Option Orientation : Vertical

Correct Marks : 1 Wrong Marks : 0.25

Which of the following statement is false regarding future contracts?

Options :

- It is concerned with both the bought and sold of the items
- It is standardized as to the quality, quantity, location and time of delivery of each commodities
- These incur investment risk
- No option is correct

#### General Hindi 1

Group Number :	9
Group Id :	545927299
Group Maximum Duration :	0
Group Minimum Duration :	0
Revisit allowed for view? :	No
Revisit allowed for edit? :	No
Break time:	0
Group Marks:	20
Revisit allowed for group Instructions? :	Yes
Maximum Instruction Time:	0
Minimum Instruction Time:	0

#### General Hindi 1

Section Id :	545927299
Section Number :	1
Section type :	Online
Mandatory or Optional:	Mandatory
Number of Questions:	20
Number of Questions to be attempted:	20
Section Marks:	20
Display Number Panel:	Yes
Group All Questions:	No

Sub-Section Id:

545927358

Question Shuffling Allowed :

Yes

Question Number : 161 Question Id : 5459276020 Question Type : MCQ Option Shuffling : Yes Display Question Number : Yes  
Single Line Question Option : No Option Orientation : Vertical

Correct Marks : 1 Wrong Marks : 0.25

दिए गए शब्द में किस प्रकार की संधि है ज्ञात कीजिए

निस्तेज

Options :

1. ✓ विसर्ग संधि
2. ✗ यण संधि
3. ✗ दीर्घ संधि
4. ✗ अयादि संधि

Question Number : 161 Question Id : 5459276020 Question Type : MCQ Option Shuffling : Yes Display Question Number : Yes  
Single Line Question Option : No Option Orientation : Vertical

Correct Marks : 1 Wrong Marks : 0.25

दिए गए शब्द में किस प्रकार की संधि है ज्ञात कीजिए

निस्तेज

Options :

1. ✓ विसर्ग संधि
2. ✗ यण संधि
3. ✗ दीर्घ संधि
4. ✗ अयादि संधि

Question Number : 162 Question Id : 5459276021 Question Type : MCQ Option Shuffling : Yes Display Question Number : Yes  
Single Line Question Option : No Option Orientation : Vertical

Correct Marks : 1 Wrong Marks : 0.25

दिए गए शब्द में प्रत्यय ज्ञात कीजिए

कटैया

Options :

1. ✗ क
2. ✗ ऐय
3. ✗ कट
4. ✓ या

Question Number : 162 Question Id : 5459276021 Question Type : MCQ Option Shuffling : Yes Display Question Number : Yes  
Single Line Question Option : No Option Orientation : Vertical

Correct Marks : 1 Wrong Marks : 0.25

दिए गए शब्द में प्रत्यय ज्ञात कीजिए

कटैया

Options :

1. ✗ क
2. ✗ ऐय
3. ✗ कट
4. ✓ या

Question Number : 163 Question Id : 5459276022 Question Type : MCQ Option Shuffling : Yes Display Question Number : Yes  
Single Line Question Option : No Option Orientation : Vertical

Correct Marks : 1 Wrong Marks : 0.25

निम्नलिखित में से कौन सा शब्द विदेशी शब्द का उदाहरण है?

Options :

1. ✓ बस
2. ✗ झंझर
3. ✗ खार
4. ✗ खिड़की

Question Number : 163 Question Id : 5459276022 Question Type : MCQ Option Shuffling : Yes Display Question Number : Yes  
Single Line Question Option : No Option Orientation : Vertical

Correct Marks : 1 Wrong Marks : 0.25

निम्नलिखित में से कौन सा शब्द विदेशी शब्द का उदाहरण है?

Options :

1. ✓ बस
2. ✗ झंझर
3. ✗ खार
4. ✗ खिड़की

Question Number : 164 Question Id : 5459276023 Question Type : MCQ Option Shuffling : Yes Display Question Number : Yes  
Single Line Question Option : No Option Orientation : Vertical

Correct Marks : 1 Wrong Marks : 0.25

दिए गए शब्दों के समूह में विशेष्य ज्ञात कीजिए

Options :

1. ✓ व्यक्ति
2. ✗ भीख
3. ✗ माँग
4. ✗ रहा है

Question Number : 164 Question Id : 5459276023 Question Type : MCQ Option Shuffling : Yes Display Question Number : Yes  
Single Line Question Option : No Option Orientation : Vertical

Correct Marks : 1 Wrong Marks : 0.25

दिए गए शब्दों के समूह में विशेष्य ज्ञात कीजिए

Options :

1. ✓ व्यक्ति
2. ✗ भीख
3. ✗ माँग
4. ✗ रहा है

Question Number : 165 Question Id : 5459276024 Question Type : MCQ Option Shuffling : Yes Display Question Number : Yes  
Single Line Question Option : No Option Orientation : Vertical

Correct Marks : 1 Wrong Marks : 0.25

दिए गए वाक्य में रेखांकित भाग में किस प्रकार की संज्ञा है ज्ञात कीजिए

माँ ने सारा खाना घी में बनाया है

Options :

1. ✗ भाववाचक

2. ✘ जातिवाचक
3. ✔ द्रव्यवाचक
4. ✘ व्यक्तिवाचक

Question Number : 165 Question Id : 5459276024 Question Type : MCQ Option Shuffling : Yes Display Question Number : Yes  
Single Line Question Option : No Option Orientation : Vertical

Correct Marks : 1 Wrong Marks : 0.25

दिए गए वाक्य में रेखांकित भाग में किस प्रकार की संज्ञा है ज्ञात कीजिए।

माँ ने सारा खाना घी में बनाया है

Options :

1. ✘ भाववाचक
2. ✘ जातिवाचक
3. ✔ द्रव्यवाचक
4. ✘ व्यक्तिवाचक

Question Number : 166 Question Id : 5459276025 Question Type : MCQ Option Shuffling : Yes Display Question Number : Yes  
Single Line Question Option : No Option Orientation : Vertical

Correct Marks : 1 Wrong Marks : 0.25

निम्नलिखित शब्द युग्मों में से कौन सा एकजातीय युग्म है?

Options :

1. ✔ धर्म - कर्म
2. ✘ दौड़ - भाग
3. ✘ आकाश - पाताल
4. ✘ बाल - बच्चे

Question Number : 166 Question Id : 5459276025 Question Type : MCQ Option Shuffling : Yes Display Question Number : Yes  
Single Line Question Option : No Option Orientation : Vertical

Correct Marks : 1 Wrong Marks : 0.25

निम्नलिखित शब्द युग्मों में से कौन सा एकजातीय युग्म है?

Options :

1. ✔ धर्म - कर्म
2. ✘ दौड़ - भाग
3. ✘ आकाश - पाताल
4. ✘ बाल - बच्चे

Question Number : 167 Question Id : 5459276026 Question Type : MCQ Option Shuffling : Yes Display Question Number : Yes  
Single Line Question Option : No Option Orientation : Vertical

Correct Marks : 1 Wrong Marks : 0.25

दिए गए शब्द युग्म का अर्थ ज्ञात कीजिए।

अनु - अणु

Options :

1. ✔ बाद में - कण
2. ✘ अन्न - अनार
3. ✘ कल - अन्न
4. ✘ अम - अन्न

Question Number : 167 Question Id : 5459276026 Question Type : MCQ Option Shuffling : Yes Display Question Number : Yes  
Single Line Question Option : No Option Orientation : Vertical

Correct Marks : 1 Wrong Marks : 0.25

दिए गए शब्द युग्म का अर्थ ज्ञात कीजिए।

अनु - अणु

Options :

1. ✓ बाद में - कण
2. ✗ अन्न - अनार
3. ✗ कल - अन्न
4. ✗ अम - अन्न

Question Number : 168 Question Id : 5459276027 Question Type : MCQ Option Shuffling : Yes Display Question Number : Yes  
Single Line Question Option : No Option Orientation : Vertical

Correct Marks : 1 Wrong Marks : 0.25

दिए गए वाक्यांश के लिए उचित शब्द का चयन कीजिए।

जिसके हाथ में वर्ज हो।

Options :

1. ✓ वर्जपाणि
2. ✗ हस्तवज्र
3. ✗ वज्री
4. ✗ वज्रहस्त

Question Number : 168 Question Id : 5459276027 Question Type : MCQ Option Shuffling : Yes Display Question Number : Yes  
Single Line Question Option : No Option Orientation : Vertical

Correct Marks : 1 Wrong Marks : 0.25

दिए गए वाक्यांश के लिए उचित शब्द का चयन कीजिए।

जिसके हाथ में वर्ज हो।

Options :

1. ✓ वर्जपाणि
2. ✗ हस्तवज्र
3. ✗ वज्री
4. ✗ वज्रहस्त

Question Number : 169 Question Id : 5459276028 Question Type : MCQ Option Shuffling : Yes Display Question Number : Yes  
Single Line Question Option : No Option Orientation : Vertical

Correct Marks : 1 Wrong Marks : 0.25

दिए गए शब्द का पर्यायवाची ज्ञात कीजिए।

चटमार

Options :

1. ✓ डाकू
2. ✗ फल
3. ✗ शैतान
4. ✗ पक्षी

Question Number : 169 Question Id : 5459276028 Question Type : MCQ Option Shuffling : Yes Display Question Number : Yes  
Single Line Question Option : No Option Orientation : Vertical

Correct Marks : 1 Wrong Marks : 0.25

दिए गए शब्द का पर्यायवाची ज्ञात कीजिए।

वटमार

Options :

1. ✓ डाकू
2. ✗ फल
3. ✗ शैतान
4. ✗ पक्षी

Question Number : 170 Question Id : 5459276029 Question Type : MCQ Option Shuffling : Yes Display Question Number : Yes  
Single Line Question Option : No Option Orientation : Vertical

Correct Marks : 1 Wrong Marks : 0.25

दिए गए वाक्यांश के लिए उचित शब्द का चयन कीजिए।

जो दूर की बात सोचता हो।

Options :

1. ✗ दूरदर्शन
2. ✓ दूरदर्शी
3. ✗ दूरगामी
4. ✗ दूरबीन

Question Number : 170 Question Id : 5459276029 Question Type : MCQ Option Shuffling : Yes Display Question Number : Yes  
Single Line Question Option : No Option Orientation : Vertical

Correct Marks : 1 Wrong Marks : 0.25

दिए गए वाक्यांश के लिए उचित शब्द का चयन कीजिए।

जो दूर की बात सोचता हो।

Options :

1. ✗ दूरदर्शन
2. ✓ दूरदर्शी
3. ✗ दूरगामी
4. ✗ दूरबीन

Question Number : 171 Question Id : 5459276030 Question Type : MCQ Option Shuffling : Yes Display Question Number : Yes  
Single Line Question Option : No Option Orientation : Vertical

Correct Marks : 1 Wrong Marks : 0.25

दिए गए शब्द का विलोम शब्द ज्ञात कीजिए।

आलोक

Options :

1. ✗ रोशनी
2. ✓ अंधकार
3. ✗ धूप
4. ✗ छाया

Question Number : 171 Question Id : 5459276030 Question Type : MCQ Option Shuffling : Yes Display Question Number : Yes  
Single Line Question Option : No Option Orientation : Vertical

Correct Marks : 1 Wrong Marks : 0.25

दिए गए शब्द का विलोम शब्द ज्ञात कीजिए।

आलोक

Options :

1. ✘ रोशनी
2. ✔ अंधकार
3. ✘ धूप
4. ✘ छाया

Question Number : 172 Question Id : 5459276031 Question Type : MCQ Option Shuffling : Yes Display Question Number : Yes  
Single Line Question Option : No Option Orientation : Vertical

Correct Marks : 1 Wrong Marks : 0.25

निम्नलिखित में से शुद्ध वर्तनी का चयन कीजिए।

Options :

1. ✘ आधः पतन
2. ✔ अधःपतन
3. ✘ अधिःपतन
4. ✘ आघोपतन

Question Number : 172 Question Id : 5459276031 Question Type : MCQ Option Shuffling : Yes Display Question Number : Yes  
Single Line Question Option : No Option Orientation : Vertical

Correct Marks : 1 Wrong Marks : 0.25

निम्नलिखित में से शुद्ध वर्तनी का चयन कीजिए।

Options :

1. ✘ आधः पतन
2. ✔ अधःपतन
3. ✘ अधिःपतन
4. ✘ आघोपतन

Question Number : 173 Question Id : 5459276032 Question Type : MCQ Option Shuffling : Yes Display Question Number : Yes  
Single Line Question Option : No Option Orientation : Vertical

Correct Marks : 1 Wrong Marks : 0.25

दिए गए वाक्य में रिक्त स्थान की पूर्ति कीजिए।

\_\_\_\_\_ मत जाओ

Options :

1. ✘ उतना
2. ✘ जितना
3. ✔ बाहर
4. ✘ तेज

Question Number : 173 Question Id : 5459276032 Question Type : MCQ Option Shuffling : Yes Display Question Number : Yes  
Single Line Question Option : No Option Orientation : Vertical

Correct Marks : 1 Wrong Marks : 0.25

दिए गए वाक्य में रिक्त स्थान की पूर्ति कीजिए।

\_\_\_\_\_ मत जाओ

Options :

1. ✘ उतना
2. ✘ जितना
3. ✔ बाहर
4. ✘ तेज



Question Number : 174 Question Id : 5459276033 Question Type : MCQ Option Shuffling : Yes Display Question Number : Yes  
Single Line Question Option : No Option Orientation : Vertical

Correct Marks : 1 Wrong Marks : 0.25

दिए गए शब्दों के लिए उचित शब्द का चयन कीजिए

समान जाति वाला

Options :

1. ✓ सजातीय
2. ✗ जातिवाद
3. ✗ जातिवाला
4. ✗ एकजात

Question Number : 174 Question Id : 5459276033 Question Type : MCQ Option Shuffling : Yes Display Question Number : Yes  
Single Line Question Option : No Option Orientation : Vertical

Correct Marks : 1 Wrong Marks : 0.25

दिए गए शब्दों के लिए उचित शब्द का चयन कीजिए

समान जाति वाला

Options :

1. ✓ सजातीय
2. ✗ जातिवाद
3. ✗ जातिवाला
4. ✗ एकजात

Question Number : 175 Question Id : 5459276034 Question Type : MCQ Option Shuffling : Yes Display Question Number : Yes  
Single Line Question Option : No Option Orientation : Vertical

Correct Marks : 1 Wrong Marks : 0.25

दिए गए शब्द का विलोम शब्द ज्ञात कीजिए

प्रवेश

Options :

1. ✗ निषेध
2. ✗ बाहरी
3. ✓ निकास
4. ✗ अंदर

Question Number : 175 Question Id : 5459276034 Question Type : MCQ Option Shuffling : Yes Display Question Number : Yes  
Single Line Question Option : No Option Orientation : Vertical

Correct Marks : 1 Wrong Marks : 0.25

दिए गए शब्द का विलोम शब्द ज्ञात कीजिए

प्रवेश

Options :

1. ✗ निषेध
2. ✗ बाहरी
3. ✓ निकास
4. ✗ अंदर

Question Number : 176 Question Id : 5459276035 Question Type : MCQ Option Shuffling : Yes Display Question Number : Yes  
Single Line Question Option : No Option Orientation : Vertical

Correct Marks : 1 Wrong Marks : 0.25

दिए गए शब्द का स्त्रीलिंग ज्ञात कीजिए।

गीदड़

Options :

1. ✘ गिदिड़या
2. ✔ गीदड़ी
3. ✘ गीदड़िनी
4. ✘ गीदड़िन

Question Number : 176 Question Id : 5459276035 Question Type : MCQ Option Shuffling : Yes Display Question Number : Yes  
Single Line Question Option : No Option Orientation : Vertical

Correct Marks : 1 Wrong Marks : 0.25

दिए गए शब्द का स्त्रीलिंग ज्ञात कीजिए।

गीदड़

Options :

1. ✘ गिदिड़या
2. ✔ गीदड़ी
3. ✘ गीदड़िनी
4. ✘ गीदड़िन

Question Number : 177 Question Id : 5459276036 Question Type : MCQ Option Shuffling : Yes Display Question Number : Yes  
Single Line Question Option : No Option Orientation : Vertical

Correct Marks : 1 Wrong Marks : 0.25

निम्नलिखित में से कौन सा शब्द हमेशा बहुवचन में प्रयुक्त होता है?

Options :

1. ✔ प्राण
2. ✘ भक्ति
3. ✘ शिशु
4. ✘ पुस्तक

Question Number : 177 Question Id : 5459276036 Question Type : MCQ Option Shuffling : Yes Display Question Number : Yes  
Single Line Question Option : No Option Orientation : Vertical

Correct Marks : 1 Wrong Marks : 0.25

निम्नलिखित में से कौन सा शब्द हमेशा बहुवचन में प्रयुक्त होता है?

Options :

1. ✔ प्राण
2. ✘ भक्ति
3. ✘ शिशु
4. ✘ पुस्तक

Question Number : 178 Question Id : 5459276037 Question Type : MCQ Option Shuffling : Yes Display Question Number : Yes  
Single Line Question Option : No Option Orientation : Vertical

Correct Marks : 1 Wrong Marks : 0.25

निम्नलिखित में से कौन सा करण कारक का विभक्तिबोधक चिह्न है?

Options :

1. ✘ के लिए
2. ✘ के वास्ते

3. ✓ से, के द्वारा
4. ✗ का, की, के

Question Number : 178 Question Id : 5459276037 Question Type : MCQ Option Shuffling : Yes Display Question Number : Yes  
Single Line Question Option : No Option Orientation : Vertical

Correct Marks : 1 Wrong Marks : 0.25

निम्नलिखित में से कौन सा करण कारक का विभक्तिबोधक चिह्न है?

Options :

1. ✗ के लिए
2. ✗ के वास्ते
3. ✓ से, के द्वारा
4. ✗ का, की, के

Question Number : 179 Question Id : 5459276038 Question Type : MCQ Option Shuffling : Yes Display Question Number : Yes  
Single Line Question Option : No Option Orientation : Vertical

Correct Marks : 1 Wrong Marks : 0.25

निम्नलिखित में से किस वाक्य में कर्मवाच्य का प्रयोग हुआ है?

Options :

1. ✗ मुझसे नहीं पढ़ा जाता।
2. ✓ राम द्वारा पत्र पढ़ा जाता है।
3. ✗ बच्चे से चला नहीं जाता।
4. ✗ राम पत्र पढ़ता है।

Question Number : 179 Question Id : 5459276038 Question Type : MCQ Option Shuffling : Yes Display Question Number : Yes  
Single Line Question Option : No Option Orientation : Vertical

Correct Marks : 1 Wrong Marks : 0.25

निम्नलिखित में से किस वाक्य में कर्मवाच्य का प्रयोग हुआ है?

Options :

1. ✗ मुझसे नहीं पढ़ा जाता।
2. ✓ राम द्वारा पत्र पढ़ा जाता है।
3. ✗ बच्चे से चला नहीं जाता।
4. ✗ राम पत्र पढ़ता है।

Question Number : 180 Question Id : 5459276039 Question Type : MCQ Option Shuffling : Yes Display Question Number : Yes  
Single Line Question Option : No Option Orientation : Vertical

Correct Marks : 1 Wrong Marks : 0.25

दिए गए वाक्य में काल का रूप ज्ञात कीजिए।

सम्भव है कि वह कल आ जाएगा।

Options :

1. ✗ सामान्य भविष्यत्
2. ✓ सम्भाव्य भविष्यत्
3. ✗ हेतुहेतुमद भविष्यत्
4. ✗ उपर्युक्त सभी

Question Number : 180 Question Id : 5459276039 Question Type : MCQ Option Shuffling : Yes Display Question Number : Yes  
Single Line Question Option : No Option Orientation : Vertical

Correct Marks : 1 Wrong Marks : 0.25

दिए गए वाक्य में काल का रूप ज्ञात कीजिए।

सम्भव है कि वह कल आ जाएगा।

Options :

1. ✘ सामान्य भविष्यत्
2. ✔ सम्भाव्य भविष्यत्
3. ✘ हेतुहेतुमद् भविष्यत्
4. ✘ उपर्युक्त सभी

### General Hindi2

Group Number :	10
Group Id :	545927300
Group Maximum Duration :	0
Group Minimum Duration :	120
Revisit allowed for view? :	No
Revisit allowed for edit? :	No
Break time:	0
Group Marks:	20
Revisit allowed for group Instructions? :	Yes
Maximum Instruction Time:	0
Minimum Instruction Time:	0

### General Hindi2

Section Id :	545927300
Section Number :	1
Section type :	Online
Mandatory or Optional:	Mandatory
Number of Questions:	16
Number of Questions to be attempted:	16
Section Marks:	20
Display Number Panel:	Yes
Group All Questions:	No

Sub-Section Number:	1
Sub-Section Id:	545927359
Question Shuffling Allowed :	Yes

Question Number : 181 Question Id : 5459276040 Question Type : MCQ Option Shuffling : Yes Display Question Number : Yes  
Single Line Question Option : No Option Orientation : Vertical

Correct Marks : 1 Wrong Marks : 0.25

दिए गए वाक्य में पक्ष के रूप का चयन कीजिए।

पिता जी रोज टहलने जाते हैं।

Options :

1. ✘ पूर्ण पक्ष
2. ✔ आवृत्ति मूलक पक्ष
3. ✘ सातत्य बोधक पक्ष

4. ✘ स्थित्यामक पक्ष

Question Number : 181 Question Id : 5459276040 Question Type : MCQ Option Shuffling : Yes Display Question Number : Yes  
Single Line Question Option : No Option Orientation : Vertical

Correct Marks : 1 Wrong Marks : 0.25

दिए गए वाक्य में पक्ष के रूप का चयन कीजिए

पिता जी रोज दहलने जाते हैं।

Options :

1. ✘ पूर्ण पक्ष
2. ✔ आवृत्ति मूलक पक्ष
3. ✘ सातत्य बोधक पक्ष
4. ✘ स्थित्यामक पक्ष

Question Number : 182 Question Id : 5459276041 Question Type : MCQ Option Shuffling : Yes Display Question Number : Yes  
Single Line Question Option : No Option Orientation : Vertical

Correct Marks : 1 Wrong Marks : 0.25

दिए गए वाक्य में वृत्ति के रूप का चयन कीजिए

यह काम तो अब करना ही पड़ेगा।

Options :

1. ✔ बाध्यता सूचक
2. ✘ संभावनार्थक
3. ✘ सामर्थ्यसूचक
4. ✘ संदेहार्थक

Question Number : 182 Question Id : 5459276041 Question Type : MCQ Option Shuffling : Yes Display Question Number : Yes  
Single Line Question Option : No Option Orientation : Vertical

Correct Marks : 1 Wrong Marks : 0.25

दिए गए वाक्य में वृत्ति के रूप का चयन कीजिए

यह काम तो अब करना ही पड़ेगा।

Options :

1. ✔ बाध्यता सूचक
2. ✘ संभावनार्थक
3. ✘ सामर्थ्यसूचक
4. ✘ संदेहार्थक

Question Number : 183 Question Id : 5459276042 Question Type : MCQ Option Shuffling : Yes Display Question Number : Yes  
Single Line Question Option : No Option Orientation : Vertical

Correct Marks : 1 Wrong Marks : 0.25

दिए गए वाक्यों में से शुद्ध वाक्य का चयन कीजिए

Options :

1. ✘ सीता आँख से अंधी है।
2. ✔ सीता अंधी है।
3. ✘ सीता आँखों से अंधी है।
4. ✘ सीता पूरी अंधी है।

Question Number : 183 Question Id : 5459276042 Question Type : MCQ Option Shuffling : Yes Display Question Number : Yes  
Single Line Question Option : No Option Orientation : Vertical

Correct Marks : 1 Wrong Marks : 0.25

दिए गए वाक्यों में से शुद्ध वाक्य का चयन कीजिए

Options :

1. ✘ सीता आँख से अंधी है
2. ✔ सीता अंधी है
3. ✘ सीता आँखों से अंधी है
4. ✘ सीता पूरी अंधी है

Question Number : 184 Question Id : 5459276043 Question Type : MCQ Option Shuffling : Yes Display Question Number : Yes  
Single Line Question Option : No Option Orientation : Vertical

Correct Marks : 1 Wrong Marks : 0.25

दिए गए शब्द किस पुरुष के उदाहरण है ज्ञात कीजिए

वह, उसका, इन्हें

Options :

1. ✘ उत्तम
2. ✘ मध्यम
3. ✔ अन्य
4. ✘ प्रथमा

Question Number : 184 Question Id : 5459276043 Question Type : MCQ Option Shuffling : Yes Display Question Number : Yes  
Single Line Question Option : No Option Orientation : Vertical

Correct Marks : 1 Wrong Marks : 0.25

दिए गए शब्द किस पुरुष के उदाहरण है ज्ञात कीजिए

वह, उसका, इन्हें

Options :

1. ✘ उत्तम
2. ✘ मध्यम
3. ✔ अन्य
4. ✘ प्रथमा

Question Number : 185 Question Id : 5459276044 Question Type : MCQ Option Shuffling : Yes Display Question Number : Yes  
Single Line Question Option : No Option Orientation : Vertical

Correct Marks : 1 Wrong Marks : 0.25

दिए गए वाक्य किस वाक्य का उदाहरण है ज्ञात कीजिए

पिता जी के चित्र को देखकर लगता है मानो वह यहीं है

Options :

1. ✔ मिश्र
2. ✘ संयुक्त
3. ✘ सरल
4. ✘ आज्ञार्थक

Question Number : 185 Question Id : 5459276044 Question Type : MCQ Option Shuffling : Yes Display Question Number : Yes  
Single Line Question Option : No Option Orientation : Vertical

Correct Marks : 1 Wrong Marks : 0.25

दिए गए वाक्य किस वाक्य का उदाहरण है ज्ञात कीजिए

पिता जी के चित्र को देखकर लगता है मानो वह यहीं है

Options :

1. ✓ मिश्र
2. ✗ संयुक्त
3. ✗ सरल
4. ✗ आज्ञार्थक

Question Number : 186 Question Id : 5459276045 Question Type : MCQ Option Shuffling : Yes Display Question Number : Yes  
Single Line Question Option : No Option Orientation : Vertical

Correct Marks : 1 Wrong Marks : 0.25

निम्नलिखित प्रश्न में, दिए गए चार विकल्पों में से, उस विकल्प का चयन करें जो दिए गए मुहावरे के अर्थ को सर्वश्रेष्ठ रूप से व्यक्त करता है।

चमड़ी जाए पर दमड़ी न जाए।

Options :

1. ✗ अपना उल्लू सीधा करना
2. ✗ मतलब निकलना
3. ✗ भैंस के आगे बीन बजाना
4. ✓ बहुत अधिक कंजूसी करना

Question Number : 186 Question Id : 5459276045 Question Type : MCQ Option Shuffling : Yes Display Question Number : Yes  
Single Line Question Option : No Option Orientation : Vertical

Correct Marks : 1 Wrong Marks : 0.25

निम्नलिखित प्रश्न में, दिए गए चार विकल्पों में से, उस विकल्प का चयन करें जो दिए गए मुहावरे के अर्थ को सर्वश्रेष्ठ रूप से व्यक्त करता है।

चमड़ी जाए पर दमड़ी न जाए।

Options :

1. ✗ अपना उल्लू सीधा करना
2. ✗ मतलब निकलना
3. ✗ भैंस के आगे बीन बजाना
4. ✓ बहुत अधिक कंजूसी करना

Question Number : 187 Question Id : 5459276046 Question Type : MCQ Option Shuffling : Yes Display Question Number : Yes  
Single Line Question Option : No Option Orientation : Vertical

Correct Marks : 1 Wrong Marks : 0.25

निम्नलिखित प्रश्न में, दिए गए चार विकल्पों में से, उस विकल्प का चयन करें जो दिए गए मुहावरे के अर्थ को सर्वश्रेष्ठ रूप से व्यक्त करता है।

दिल मसोस कर रह जाना।

Options :

1. ✗ अपमान करना
2. ✓ खीजकर रह जाना
3. ✗ शाबाशी देना
4. ✗ जी ललचाना

Question Number : 187 Question Id : 5459276046 Question Type : MCQ Option Shuffling : Yes Display Question Number : Yes  
Single Line Question Option : No Option Orientation : Vertical

Correct Marks : 1 Wrong Marks : 0.25

निम्नलिखित प्रश्न में, दिए गए चार विकल्पों में से, उस विकल्प का चयन करें जो दिए गए मुहावरे के अर्थ को सर्वश्रेष्ठ रूप से व्यक्त करता है।

दिल मसोस कर रह जाना।

Options :

1. ✗ अपमान करना

2. ✓ खीजकर रह जाना
3. ✗ शाबाशी देना
4. ✗ जी ललचाना

Question Number : 188 Question Id : 5459276047 Question Type : MCQ Option Shuffling : Yes Display Question Number : Yes  
Single Line Question Option : No Option Orientation : Vertical

Correct Marks : 1 Wrong Marks : 0.25

निम्नलिखित प्रश्न में, दिए गए चार विकल्पों में से, उस विकल्प का चयन करें जो दिए गए मुहावरे के अर्थ को सर्वश्रेष्ठ रूप से व्यक्त करता है।

कलेजा ठंडा होना।

Options :

1. ✓ सुकून मिलना
2. ✗ मार देना
3. ✗ व्यर्थ दखल देना
4. ✗ गायब हो जाना

Question Number : 188 Question Id : 5459276047 Question Type : MCQ Option Shuffling : Yes Display Question Number : Yes  
Single Line Question Option : No Option Orientation : Vertical

Correct Marks : 1 Wrong Marks : 0.25

निम्नलिखित प्रश्न में, दिए गए चार विकल्पों में से, उस विकल्प का चयन करें जो दिए गए मुहावरे के अर्थ को सर्वश्रेष्ठ रूप से व्यक्त करता है।

कलेजा ठंडा होना।

Options :

1. ✓ सुकून मिलना
2. ✗ मार देना
3. ✗ व्यर्थ दखल देना
4. ✗ गायब हो जाना

Question Number : 189 Question Id : 5459276048 Question Type : MCQ Option Shuffling : Yes Display Question Number : Yes  
Single Line Question Option : No Option Orientation : Vertical

Correct Marks : 1 Wrong Marks : 0.25

दिए गए वाक्य के लिए सही लोकोक्ति का चयन कीजिए।

बेइमानी बार - बार नहीं चल सकती।

Options :

1. ✗ आसमान सिर पर उठा लेना
2. ✓ काठ की हाँड़ी बार - बार नहीं चढ़ती
3. ✗ नाच न जाने आंगन टेढ़ा
4. ✗ आस्तीन का साँपा

Question Number : 189 Question Id : 5459276048 Question Type : MCQ Option Shuffling : Yes Display Question Number : Yes  
Single Line Question Option : No Option Orientation : Vertical

Correct Marks : 1 Wrong Marks : 0.25

दिए गए वाक्य के लिए सही लोकोक्ति का चयन कीजिए।

बेइमानी बार - बार नहीं चल सकती।

Options :

1. ✗ आसमान सिर पर उठा लेना
2. ✓ काठ की हाँड़ी बार - बार नहीं चढ़ती
3. ✗ नाच न जाने आंगन टेढ़ा



4. ✘ आस्तीन का साँपा

Question Number : 190 Question Id : 5459276049 Question Type : MCQ Option Shuffling : Yes Display Question Number : Yes  
Single Line Question Option : No Option Orientation : Vertical

Correct Marks : 1 Wrong Marks : 0.25

निम्नलिखित प्रश्न में, दिए गए चार विकल्पों में से, उस विकल्प का चयन करें जो दिए गए मुहावरे के अर्थ को सर्वश्रेष्ठ रूप से व्यक्त करता है।

बोझ बन जाना।

Options :

1. ✘ वीर गति प्राप्त करना
2. ✘ लाल पीला होना
3. ✔ पहाड़ बन जाना
4. ✘ लोहा लेना

Question Number : 190 Question Id : 5459276049 Question Type : MCQ Option Shuffling : Yes Display Question Number : Yes  
Single Line Question Option : No Option Orientation : Vertical

Correct Marks : 1 Wrong Marks : 0.25

निम्नलिखित प्रश्न में, दिए गए चार विकल्पों में से, उस विकल्प का चयन करें जो दिए गए मुहावरे के अर्थ को सर्वश्रेष्ठ रूप से व्यक्त करता है।

बोझ बन जाना।

Options :

1. ✘ वीर गति प्राप्त करना
2. ✘ लाल पीला होना
3. ✔ पहाड़ बन जाना
4. ✘ लोहा लेना

Question Number : 191 Question Id : 5459276050 Question Type : MCQ Option Shuffling : Yes Display Question Number : Yes  
Single Line Question Option : No Option Orientation : Vertical

Correct Marks : 1 Wrong Marks : 0.25

वाक्य की पूर्णता को प्रकट करने के लिए किस विराम चिह्न का प्रयोग किया जाता है?

Options :

1. ✔ पूर्णविराम
2. ✘ अल्पविराम
3. ✘ अर्द्धविराम
4. ✘ कोष्ठक चिह्न

Question Number : 191 Question Id : 5459276050 Question Type : MCQ Option Shuffling : Yes Display Question Number : Yes  
Single Line Question Option : No Option Orientation : Vertical

Correct Marks : 1 Wrong Marks : 0.25

वाक्य की पूर्णता को प्रकट करने के लिए किस विराम चिह्न का प्रयोग किया जाता है?

Options :

1. ✔ पूर्णविराम
2. ✘ अल्पविराम
3. ✘ अर्द्धविराम
4. ✘ कोष्ठक चिह्न

Question Number : 192 Question Id : 5459276051 Question Type : MCQ Option Shuffling : Yes Display Question Number : Yes  
Single Line Question Option : No Option Orientation : Vertical

Correct Marks : 1 Wrong Marks : 0.25

दिया गया विराम (" ") किस विराम चिह्न का चिह्न है?

Options :

1. ✓ उद्धारण
2. ✗ लाघव
3. ✗ निर्देशक
4. ✗ संयोजक

Question Number : 192 Question Id : 5459276051 Question Type : MCQ Option Shuffling : Yes Display Question Number : Yes  
Single Line Question Option : No Option Orientation : Vertical

Correct Marks : 1 Wrong Marks : 0.25

दिया गया विराम (" ") किस विराम चिह्न का चिह्न है?

Options :

1. ✓ उद्धारण
2. ✗ लाघव
3. ✗ निर्देशक
4. ✗ संयोजक

Question Number : 193 Question Id : 5459276052 Question Type : MCQ Option Shuffling : Yes Display Question Number : Yes  
Single Line Question Option : No Option Orientation : Vertical

Correct Marks : 1 Wrong Marks : 0.25

दिए गए वाक्य में कौन सा विराम का उपयोग होगा ज्ञात कीजिए।

अरे मनु ने झूठ बोला।

Options :

1. ✗ ;, ।
2. ✗ ,, ।
3. ✗ ;, ?
4. ✓ !, ।

Question Number : 193 Question Id : 5459276052 Question Type : MCQ Option Shuffling : Yes Display Question Number : Yes  
Single Line Question Option : No Option Orientation : Vertical

Correct Marks : 1 Wrong Marks : 0.25

दिए गए वाक्य में कौन सा विराम का उपयोग होगा ज्ञात कीजिए।

अरे मनु ने झूठ बोला।

Options :

1. ✗ ;, ।
2. ✗ ,, ।
3. ✗ ;, ?
4. ✓ !, ।

Question Number : 194 Question Id : 5459276053 Question Type : MCQ Option Shuffling : Yes Display Question Number : Yes  
Single Line Question Option : No Option Orientation : Vertical

Correct Marks : 1 Wrong Marks : 0.25

निम्नलिखित प्रश्न में, दिए गए चार विकल्पों में से, उस विकल्प का चयन करें जो दिए गए मुहावरे के अर्थ को सर्वश्रेष्ठ रूप से व्यक्त करता है।

अपना उल्लू सीधा करना।

Options :

1. ✓ अपना काम निकलवाना।
2. ✗ उल्लू से काम कराना।

3. ✘ उल्लू को मारना

4. ✘ काम न करना

Question Number : 194 Question Id : 5459276053 Question Type : MCQ Option Shuffling : Yes Display Question Number : Yes  
Single Line Question Option : No Option Orientation : Vertical

Correct Marks : 1 Wrong Marks : 0.25

निम्नलिखित प्रश्न में, दिए गए चार विकल्पों में से, उस विकल्प का चयन करें जो दिए गए मुहावरे के अर्थ को सर्वश्रेष्ठ रूप से व्यक्त करता है।

अपना उल्लू सीधा करना।

Options :

1. ✔ अपना काम निकलवाना

2. ✘ उल्लू से काम कराना

3. ✘ उल्लू को मारना

4. ✘ काम न करना

Question Number : 195 Question Id : 5459276054 Question Type : MCQ Option Shuffling : Yes Display Question Number : Yes  
Single Line Question Option : No Option Orientation : Vertical

Correct Marks : 1 Wrong Marks : 0.25

दिए गए वाक्य में कौन सा विराम का उपयोग होगा ज्ञात कीजिए।

क्या तुम झूठ बोलते हो।

Options :

1. ✘ ।

2. ✘ ,

3. ✔ ?

4. ✘ !

Question Number : 195 Question Id : 5459276054 Question Type : MCQ Option Shuffling : Yes Display Question Number : Yes  
Single Line Question Option : No Option Orientation : Vertical

Correct Marks : 1 Wrong Marks : 0.25

दिए गए वाक्य में कौन सा विराम का उपयोग होगा ज्ञात कीजिए।

क्या तुम झूठ बोलते हो।

Options :

1. ✘ ।

2. ✘ ,

3. ✔ ?

4. ✘ !

Sub-Section Number: 2

Sub-Section Id: 545927360

Question Shuffling Allowed : Yes

Question Id : 5459276055 Question Type : COMPREHENSION Sub Question Shuffling Allowed : Yes Group Comprehension  
Questions : No

Question Numbers : (196 to 200)

Question Label : Comprehension

एक गद्यांश दिया गया है। गद्यांश के आधार पर पाँच प्रश्न दिए गए हैं। गद्यांश को ध्यानपूर्वक पढ़ें तथा प्रत्येक प्रश्न में चार विकल्पों में से सही विकल्प चुनें।

महाराज भगीरथ कठोर तपस्या के बाद गंगा को स्वर्ग से पृथ्वी पर लाए। इसी कारण गंगा का नाम भगीरथी पड़ा। गंगा नदी के प्रति भारतवासियों की अपार श्रद्धा है। यह उनके सुख-दुख की साथी रही है। गंगा का भारत की सांस्कृतिक, धार्मिक व सामाजिक परंपराओं तथा राजनीतिक परिवर्तनों से भी अटूट संबंध रहा है। गंगा युगों से चली आ रही भारतीय सभ्यता और संस्कृति की प्रतीक है। देश के अधिकतर पवित्र स्थान इसी के किनारे स्थित हैं - हरिद्वार, प्रयाग, काशी, ऋषिकेश आदि। थोड़े उधर गंगा के पावन तट पर ही हैं देश के प्रसिद्ध औद्योगिक केंद्र कानपुर, कोलकाता आदि। इसी के तट पर बसे हैं गंगा ने ही उत्तर भारत के मैदानों को इतना उपजाऊ बनाया है। हिमालय से निकलकर बंगाल की खाड़ी तक की यात्रा में हजारों वर्षों से बहती हुई पवित्र गंगा भारत के करोड़ों लोगों का उपकार करने में मग्न है। गंगा के जल को हिंदू पवित्र मानते हैं। धार्मिक कार्यों में इसका उपयोग होता है। यह गंगा जल ही है जिसमें वर्षों तक रखे जाने पर भी कीटाणु पैदा नहीं होते। गंगा में स्नान करके हिंदू स्वयं को धन्य मानते हैं।

### Sub questions

Question Number : 196 Question Id : 5459276056 Question Type : MCQ Option Shuffling : Yes Display Question Number : Yes  
Single Line Question Option : No Option Orientation : Vertical

Correct Marks : 1 Wrong Marks : 0.25

गंगा को स्वर्ग से पृथ्वी पर कौन लाया?

Options :

1. ✘ महर्षि
2. ✘ भगवान शिव
3. ✔ महाराज भगीरथ
4. ✘ विष्णु

Question Number : 197 Question Id : 5459276057 Question Type : MCQ Option Shuffling : Yes Display Question Number : Yes  
Single Line Question Option : No Option Orientation : Vertical

Correct Marks : 1 Wrong Marks : 0.25

उपर्युक्त गद्यांश का शीर्षक क्या है?

Options :

1. ✔ पवित्र गंगा
2. ✘ स्वर्गवासी गंगा
3. ✘ भारतीय सभ्यता और संस्कृति
4. ✘ गंगा की आत्मकथा

Question Number : 198 Question Id : 5459276058 Question Type : MCQ Option Shuffling : Yes Display Question Number : Yes  
Single Line Question Option : No Option Orientation : Vertical

Correct Marks : 1 Wrong Marks : 0.25

गंगा जल की क्या विशेषता है?

Options :

1. ✔ कभी खराब नहीं होता
2. ✘ बोटल में डाला जा सकता है
3. ✘ सदैव साफ होता है
4. ✘ घर नहीं ले जा सकते

Question Number : 199 Question Id : 5459276059 Question Type : MCQ Option Shuffling : Yes Display Question Number : Yes  
Single Line Question Option : No Option Orientation : Vertical

Correct Marks : 1 Wrong Marks : 0.25

गंगा के जल को कौन पवित्र मानते हैं?

Options :

1. ✘ सिख
2. ✘ मुसलमान
3. ✔ हिंदु
4. ✘ ईसाई

Question Number : 200 Question Id : 5459276060 Question Type : MCQ Option Shuffling : Yes Display Question Number : Yes  
Single Line Question Option : No Option Orientation : Vertical

Correct Marks : 1 Wrong Marks : 0.25

उपकार करने में मग्न का अर्थ क्या है?

Options :

1. ✘ नाचना
2. ✘ चलना
3. ✔ पाप धोना
4. ✘ पुण्य धोना

Question Id : 5459276055 Question Type : COMPREHENSION Sub Question Shuffling Allowed : Yes Group Comprehension  
Questions : No

Question Numbers : (196 to 200)

Question Label : Comprehension

एक गद्यांश दिया गया है। गद्यांश के आधार पर पाँच प्रश्न दिए गए हैं। गद्यांश को ध्यानपूर्वक पढ़ें तथा प्रत्येक प्रश्न में चार विकल्पों में से सही विकल्प चुनें।

महाराज भगीरथ कठोर तपस्या के बाद गंगा को स्वर्ग से पृथ्वी पर लाए। इसी कारण गंगा का नाम भागीरथी पड़ा। गंगा नदी के प्रति भारतवासियों की अपार श्रद्धा है। यह उनके सुख-दुख की साथी रही है। गंगा का भारत की सांस्कृतिक, धार्मिक व सामाजिक परंपराओं तथा राजनीतिक परिवर्तनों से भी अटूट संबंध रहा है। गंगा युगों से चली आ रही भारतीय सभ्यता और संस्कृति की प्रतीक है। देश के अधिकतर पवित्र स्थान इसी के किनारे स्थित हैं - हरिद्वार, प्रयाग, काशी, ऋषिकेश आदि थे। उधर गंगा के पावन तट पर ही हैं देश के प्रसिद्ध औद्योगिक केंद्र कानपुर, कोलकाता आदि। इसी के तट पर बसे हैं गंगा ने ही उत्तर भारत के मैदानों को इतना उपजाऊ बनाया है। हिमालय से निकलकर बंगाल की खाड़ी तक की यात्रा में हजारों वर्षों से बहती हुई पवित्र गंगा भारत के करोड़ों लोगों का उपकार करने में मग्न है। गंगा के जल को हिंदू पवित्र मानते हैं। धार्मिक कार्यों में इसका उपयोग होता है। यह गंगा जल ही है जिसमें वर्षों तक रखे जाने पर भी कीटाणु पैदा नहीं होते। गंगा में स्नान करके हिंदू स्वयं को धन्य मानते हैं।

Sub questions

Question Number : 196 Question Id : 5459276056 Question Type : MCQ Option Shuffling : Yes Display Question Number : Yes  
Single Line Question Option : No Option Orientation : Vertical

Correct Marks : 1 Wrong Marks : 0.25

गंगा को स्वर्ग से पृथ्वी पर कौन लाया?

Options :

1. ✘ महर्षि
2. ✘ भगवान शिव
3. ✔ महाराज भगीरथ
4. ✘ विष्णु

Question Number : 197 Question Id : 5459276057 Question Type : MCQ Option Shuffling : Yes Display Question Number : Yes  
Single Line Question Option : No Option Orientation : Vertical

Correct Marks : 1 Wrong Marks : 0.25

उपर्युक्त गद्यांश का शीर्षक क्या है?

Options :

1. ✔ पवित्र गंगा
2. ✘ स्वर्गवासी गंगा
3. ✘ भारतीय सभ्यता और संस्कृति
4. ✘ गंगा की आत्मकथा

Question Number : 198 Question Id : 5459276058 Question Type : MCQ Option Shuffling : Yes Display Question Number : Yes  
Single Line Question Option : No Option Orientation : Vertical

Correct Marks : 1 Wrong Marks : 0.25

गंगा जल की क्या विशेषता है?

Options :

1. ✔ कभी खराब नहीं होता

2. ✘ बोटल में डाला जा सकता है
3. ✘ सदैव साफ होता है
4. ✘ घर नहीं ले जा सकते

Question Number : 199 Question Id : 5459276059 Question Type : MCQ Option Shuffling : Yes Display Question Number : Yes  
Single Line Question Option : No Option Orientation : Vertical

Correct Marks : 1 Wrong Marks : 0.25

गंगा के जल को कौन पवित्र मानते हैं?

Options :

1. ✘ सिख
2. ✘ मुसलमान
3. ✔ हिंदु
4. ✘ ईसाई

Question Number : 200 Question Id : 5459276060 Question Type : MCQ Option Shuffling : Yes Display Question Number : Yes  
Single Line Question Option : No Option Orientation : Vertical

Correct Marks : 1 Wrong Marks : 0.25

उपकार करने में मग्न का अर्थ क्या है?

Options :

1. ✘ नाचना
2. ✘ चलना
3. ✔ पाप धोना
4. ✘ पुण्य धोना