

Education Consultant India Ltd.

Notations :

- 1.Options shown in green color and with ✓ icon are correct.
- 2.Options shown in red color and with ✖ icon are incorrect.

Question Paper Name:	Lower Division Clerk 18th August 2019 S2
Subject Name:	LOWER DIVISION CLERK
Creation Date:	2019-08-18 15:33:16
Duration:	120
Total Marks:	200
Display Marks:	Yes
Share Answer Key With Delivery Engine:	No
Actual Answer Key:	Yes
Calculator:	None
Magnifying Glass Required?:	No
Ruler Required?:	No
Eraser Required?:	No
Scratch Pad Required?:	No
Rough Sketch/Notepad Required?:	No
Protractor Required?:	No
Show Watermark on Console?:	Yes
Highlighter:	No
Auto Save on Console?:	No

Mental Ability 1

Group Number :	1
Group Id :	545927331
Group Maximum Duration :	0
Group Minimum Duration :	0
Revisit allowed for view? :	No
Revisit allowed for edit? :	No
Break time:	0
Group Marks:	20
Revisit allowed for group Instructions? :	Yes
Maximum Instruction Time:	0
Minimum Instruction Time:	0

Mental Ability 1

Section Id :	545927331
Section Number :	1
Section type :	Online
Mandatory or Optional:	Mandatory
Number of Questions:	20
Number of Questions to be attempted:	20
Section Marks:	20

Display Number Panel: Yes
Group All Questions: No

Sub-Section Number: 1
Sub-Section Id: 545927397
Question Shuffling Allowed : Yes

Question Number : 1 Question Id : 5459276667 Question Type : MCQ Option Shuffling : Yes Display Question Number : Yes
Single Line Question Option : No Option Orientation : Vertical

Correct Marks : 1 Wrong Marks : 0.25

Arrange the given words in the sequence in which they occur in the dictionary.

1. Dicey
2. Dicot
3. Diced
4. Dicer
5. Dicta

Options :

1. ✘ 35214
2. ✔ 34125
3. ✘ 34152
4. ✘ 31254

Question Number : 1 Question Id : 5459276667 Question Type : MCQ Option Shuffling : Yes Display Question Number : Yes
Single Line Question Option : No Option Orientation : Vertical

Correct Marks : 1 Wrong Marks : 0.25

निम्नलिखित शब्दों को शब्दकोश में आने वाले क्रम के अनुसार लिखें

1. Dicey
2. Dicot
3. Diced
4. Dicer
5. Dicta

Options :

1. ✘ 35214
2. ✔ 34125
3. ✘ 34152
4. ✘ 31254

Question Number : 2 Question Id : 5459276668 Question Type : MCQ Option Shuffling : Yes Display Question Number : Yes
Single Line Question Option : No Option Orientation : Vertical

Correct Marks : 1 Wrong Marks : 0.25

A series is given with one term missing. Select the correct alternative from the given ones that will complete the series.

DS28, IX40, NC54, ?

Options :

1. ✘ SH60
2. ✘ SG60
3. ✘ SG70
4. ✔ SH70

Question Number : 2 Question Id : 5459276668 Question Type : MCQ Option Shuffling : Yes Display Question Number : Yes
Single Line Question Option : No Option Orientation : Vertical

Correct Marks : 1 Wrong Marks : 0.25

एक अनुक्रम दिया गया है, जिसमें से एक पद लुप्त है। दिए गए विकल्पों में से वह सही विकल्प चुनिए, जो अनुक्रम को पूरा करे।

DS28, IX40, NC54, ?

Options :

1. ✘ SH60
2. ✘ SG60
3. ✘ SG70
4. ✔ SH70

Question Number : 3 Question Id : 5459276669 Question Type : MCQ Option Shuffling : Yes Display Question Number : Yes
Single Line Question Option : No Option Orientation : Vertical

Correct Marks : 1 Wrong Marks : 0.25

A series is given with one term wrong. Select that wrong term from the given alternatives.

A4, C16, E60, G256

Options :

1. ✔ E60
2. ✘ C16
3. ✘ A4
4. ✘ G256

Question Number : 3 Question Id : 5459276669 Question Type : MCQ Option Shuffling : Yes Display Question Number : Yes
Single Line Question Option : No Option Orientation : Vertical

Correct Marks : 1 Wrong Marks : 0.25

एक अनुक्रम दिया गया है, जिसमें से एक पद गलत है। दिए गए विकल्पों में से उस गलत पद को चुनिए।

A4, C16, E60, G256

Options :

1. ✔ E60
2. ✘ C16
3. ✘ A4
4. ✘ G256

Question Number : 4 Question Id : 5459276670 Question Type : MCQ Option Shuffling : Yes Display Question Number : Yes
Single Line Question Option : No Option Orientation : Vertical

Correct Marks : 1 Wrong Marks : 0.25

In the following question, select the odd letter /letters from the given alternatives.

Options :

1. ✘ WMC
2. ✘ BRH
3. ✔ EWM
4. ✘ KAQ

Question Number : 4 Question Id : 5459276670 Question Type : MCQ Option Shuffling : Yes Display Question Number : Yes
Single Line Question Option : No Option Orientation : Vertical

Correct Marks : 1 Wrong Marks : 0.25

निम्नलिखित प्रश्न में दिए गए विकल्पों में से विषम अक्षर/अक्षरों को चुनिए।

Options :

- ✘ WMC
- ✘ BRH
- ✔ EWM
- ✘ KAQ

Question Number : 5 Question Id : 5459276671 Question Type : MCQ Option Shuffling : Yes Display Question Number : Yes
Single Line Question Option : No Option Orientation : Vertical

Correct Marks : 1 Wrong Marks : 0.25

In the following question, select the odd word from the given alternatives.

Options :

- ✘ Lizard
- ✔ Chair
- ✘ Rat
- ✘ Frog

Question Number : 5 Question Id : 5459276671 Question Type : MCQ Option Shuffling : Yes Display Question Number : Yes
Single Line Question Option : No Option Orientation : Vertical

Correct Marks : 1 Wrong Marks : 0.25

निम्नलिखित प्रश्न में दिए गए विकल्पों में से विषम शब्द को चुनिए।

Options :

- ✘ छिपकली
- ✔ कुर्सी
- ✘ चुहा
- ✘ मेंढक

Question Number : 6 Question Id : 5459276672 Question Type : MCQ Option Shuffling : Yes Display Question Number : Yes
Single Line Question Option : No Option Orientation : Vertical

Correct Marks : 1 Wrong Marks : 0.25

नीचे दिए गए प्रश्न में, चार अक्षर युग्म दिए गए हैं (-) के बायीं ओर दिये गये अक्षर (-) के दायीं ओर दिये गये अक्षर से किसी तर्क/नियम/संबंध से संबंधित है। तीन उसी एक तर्क/नियम/संबंध के आधार पर समान हैं। दिए गए विकल्पों में से विषम को चुनिए।

Options :

- ✔ APOC - DLQY
- ✘ MLKJ - PHNF
- ✘ VANI - YWQE
- ✘ ITSK - LPVG

Question Number : 6 Question Id : 5459276672 Question Type : MCQ Option Shuffling : Yes Display Question Number : Yes
Single Line Question Option : No Option Orientation : Vertical

Correct Marks : 1 Wrong Marks : 0.25

In the following question, four letter pairs are given. The letters on left side of (-) is related to the letters on the right side of (-) with some Logic/Rule/Relation. Three are similar on basis of same Logic/Rule/Relation. Select the odd one out from the given alternatives.

Options :

- ✔ APOC - DLQY
- ✘ MLKJ - PHNF
- ✘ VANI - YWQE
- ✘ ITSK - LPVG

Question Number : 7 Question Id : 5459276673 Question Type : MCQ Option Shuffling : Yes Display Question Number : Yes
Single Line Question Option : No Option Orientation : Vertical

Correct Marks : 1 Wrong Marks : 0.25

In the following question, select the related word pair from the given alternatives.

Treatment : Hospital :: ?

Options :

1. ✘ Restaurant : Food
2. ✔ Education : School
3. ✘ Hotel : Relax
4. ✘ House : Room

Question Number : 7 Question Id : 5459276673 Question Type : MCQ Option Shuffling : Yes Display Question Number : Yes
Single Line Question Option : No Option Orientation : Vertical

Correct Marks : 1 Wrong Marks : 0.25

निम्नलिखित प्रश्न में दिए गए विकल्पों में से संबंधित शब्द युग्म को चुनिए

उपचार : अस्पताल :: ?

Options :

1. ✘ रेस्टोरेंट : भोजन
2. ✔ शिक्षा : विद्यालय
3. ✘ होटल : आराम
4. ✘ घर : कमरा

Question Number : 8 Question Id : 5459276674 Question Type : MCQ Option Shuffling : Yes Display Question Number : Yes
Single Line Question Option : No Option Orientation : Vertical

Correct Marks : 1 Wrong Marks : 0.25

In the following question, select the related words from the given alternatives.

Earth : Planet :: Sun : ?

Options :

1. ✘ Venus
2. ✘ Sky
3. ✔ Star
4. ✘ Bright

Question Number : 8 Question Id : 5459276674 Question Type : MCQ Option Shuffling : Yes Display Question Number : Yes
Single Line Question Option : No Option Orientation : Vertical

Correct Marks : 1 Wrong Marks : 0.25

निम्नलिखित प्रश्न में दिए गए विकल्पों में से संबंधित शब्दों को चुनिए

पृथ्वी : ग्रह :: सूर्य : ?

Options :

1. ✘ शुक्र
2. ✘ आकाश
3. ✔ तारा
4. ✘ चमकीला

Question Number : 9 Question Id : 5459276675 Question Type : MCQ Option Shuffling : Yes Display Question Number : Yes
Single Line Question Option : No Option Orientation : Vertical

Correct Marks : 1 Wrong Marks : 0.25

In the following question, select the related letters from the given alternatives.

AEI : LQV :: ACE : ?

Options :

1. ✘ MON
2. ✘ LON
3. ✔ LOR
4. ✘ MOR

Question Number : 9 Question Id : 5459276675 Question Type : MCQ Option Shuffling : Yes Display Question Number : Yes
Single Line Question Option : No Option Orientation : Vertical

Correct Marks : 1 Wrong Marks : 0.25

निम्नलिखित प्रश्न में दिए गए विकल्पों में से संबंधित अक्षरों को चुनिए

AEI : LQV :: ACE : ?

Options :

1. ✘ MON
2. ✘ LON
3. ✔ LOR
4. ✘ MOR

Question Number : 10 Question Id : 5459276676 Question Type : MCQ Option Shuffling : Yes Display Question Number : Yes
Single Line Question Option : No Option Orientation : Vertical

Correct Marks : 1 Wrong Marks : 0.25

In a certain code language, 'AIR' is called as 'PURE', 'PURE' is called as 'MILK', 'MILK' is called as 'HOT', 'HOT' is called as 'SUN', 'SUN' is called as 'DRY'. What do we drink?

Options :

1. ✘ MILK
2. ✔ HOT
3. ✘ SUN
4. ✘ DRY

Question Number : 10 Question Id : 5459276676 Question Type : MCQ Option Shuffling : Yes Display Question Number : Yes
Single Line Question Option : No Option Orientation : Vertical

Correct Marks : 1 Wrong Marks : 0.25

एक विशिष्ट कोड भाषा में, 'वायु' को 'शुद्ध' कहा जाता है, 'शुद्ध' को 'दूध' कहा जाता है, 'दूध' को 'गरम' कहा जाता है, 'गरम' को 'सूर्य' कहा जाता है, 'सूर्य' को 'सूखा' कहा जाता है। हम क्या पीते हैं?

Options :

1. ✘ दूध
2. ✔ गरम
3. ✘ सूर्य
4. ✘ सूखा

Question Number : 11 Question Id : 5459276677 Question Type : MCQ Option Shuffling : Yes Display Question Number : Yes
Single Line Question Option : No Option Orientation : Vertical

Correct Marks : 1 Wrong Marks : 0.25

In a certain code language, 'BATH' is written as '125', 'DEEP' is written as '121'. What is the code for 'DRAP' in that code language?

Options :

- ✘ 178
- ✘ 161
- ✔ 157
- ✘ 184

Question Number : 11 Question Id : 5459276677 Question Type : MCQ Option Shuffling : Yes Display Question Number : Yes Single Line Question Option : No Option Orientation : Vertical

Correct Marks : 1 Wrong Marks : 0.25

एक विशिष्ट कोड भाषा में, 'BATH' को '125' लिखा जाता है, 'DEEP' को '121' लिखा जाता है। इस कोड भाषा में 'DRAP' का कोड क्या है?

Options :

- ✘ 178
- ✘ 161
- ✔ 157
- ✘ 184

Question Number : 12 Question Id : 5459276678 Question Type : MCQ Option Shuffling : Yes Display Question Number : Yes Single Line Question Option : No Option Orientation : Vertical

Correct Marks : 1 Wrong Marks : 0.25

In a certain code language, 'AMIDOL' is written as 'EIMZSH'. What is the code for 'DEFUSE' in that code language?

Options :

- ✘ HBJQWR
- ✘ ICJQSC
- ✔ HAJQWA
- ✘ ICJSQC

Question Number : 12 Question Id : 5459276678 Question Type : MCQ Option Shuffling : Yes Display Question Number : Yes Single Line Question Option : No Option Orientation : Vertical

Correct Marks : 1 Wrong Marks : 0.25

एक विशिष्ट कोड भाषा में, 'AMIDOL' को 'EIMZSH' लिखा जाता है। इस कोड भाषा में 'DEFUSE' का कोड क्या है?

Options :

- ✘ HBJQWR
- ✘ ICJQSC
- ✔ HAJQWA
- ✘ ICJSQC

Question Number : 13 Question Id : 5459276679 Question Type : MCQ Option Shuffling : Yes Display Question Number : Yes Single Line Question Option : No Option Orientation : Vertical

Correct Marks : 1 Wrong Marks : 0.25

Reema, Geeta, Seeta, Neha and Richa are five sisters. Reema is 5 years older than Geeta. Richa is 4 years older than Geeta. Reema is 10 years younger than Seeta and 3 years older to Neha. If Neha is 12 years old, then what will be the sum of the ages of Seeta, Richa and Geeta?

Options :

- ✘ 40 years
- ✘ 43 years
- ✔ 49 years
- ✘ 58 years

Question Number : 13 Question Id : 5459276679 Question Type : MCQ Option Shuffling : Yes Display Question Number : Yes
Single Line Question Option : No Option Orientation : Vertical

Correct Marks : 1 Wrong Marks : 0.25

रीमा, गीता, सीता, नेहा और ऋचा पाँच बहनें हैं। रीमा, गीता से 5 वर्ष बड़ी है। ऋचा, गीता से 4 वर्ष बड़ी है। रीमा, सीता से 10 वर्ष छोटी और नेहा से 3 वर्ष बड़ी है। यदि नेहा 12 वर्ष की है, तो सीता, ऋचा तथा गीता की आयु का योग क्या होगा?

Options :

1. ✘ 40 वर्ष
2. ✘ 43 वर्ष
3. ✔ 49 वर्ष
4. ✘ 58 वर्ष

Question Number : 14 Question Id : 5459276680 Question Type : MCQ Option Shuffling : Yes Display Question Number : Yes
Single Line Question Option : No Option Orientation : Vertical

Correct Marks : 1 Wrong Marks : 0.25

A, B, C, D, E, F, G and H are sitting around a circular table. H is towards the immediate right of G. G is towards the immediate right of F. F is towards the immediate right of E and so on. Who is third to the right of G?

Options :

1. ✘ C
2. ✔ B
3. ✘ D
4. ✘ E

Question Number : 14 Question Id : 5459276680 Question Type : MCQ Option Shuffling : Yes Display Question Number : Yes
Single Line Question Option : No Option Orientation : Vertical

Correct Marks : 1 Wrong Marks : 0.25

A, B, C, D, E, F, G और H एक वृत्ताकार मेज़ के ईर्द-गिर्द बैठे हैं। H, G के तुरंत दायीं ओर है। G, F के तुरंत दायीं ओर है। F, E के तुरंत दायीं ओर है तथा इसी प्रकार G के दायीं ओर तीसरा कौन है?

Options :

1. ✘ C
2. ✔ B
3. ✘ D
4. ✘ E

Question Number : 15 Question Id : 5459276681 Question Type : MCQ Option Shuffling : Yes Display Question Number : Yes
Single Line Question Option : No Option Orientation : Vertical

Correct Marks : 1 Wrong Marks : 0.25

A1, A2, A3, A4, A5, A6, A7, A8 and A9 are nine friends. A8 is older than A7 but younger than A9. A1 is older than A3 but younger than A4. A5 is younger than A2. A6 is younger than A7 but older than A2. A7 is younger than A3. A3 is older than A9. How many persons are older than A7?

Options :

1. ✔ 5
2. ✘ 4
3. ✘ 6
4. ✘ 3

Question Number : 15 Question Id : 5459276681 Question Type : MCQ Option Shuffling : Yes Display Question Number : Yes
Single Line Question Option : No Option Orientation : Vertical

Correct Marks : 1 Wrong Marks : 0.25

A1, A2, A3, A4, A5, A6, A7, A8 और A9 नौ मित्र हैं। A8, A7 से बड़ा है लेकिन A9 से छोटा है। A1, A3 से बड़ा है, लेकिन A4 से छोटा है। A5, A2 से छोटा है। A6, A7 से छोटा है, लेकिन A2 से बड़ा है। A7, A3 से छोटा है। A3, A9 से बड़ा है। कितने मित्र A7 से बड़े हैं?

Options :

1. ✓ 5
2. ✗ 4
3. ✗ 6
4. ✗ 3

Question Number : 16 Question Id : 5459276682 Question Type : MCQ Option Shuffling : Yes Display Question Number : Yes Single Line Question Option : No Option Orientation : Vertical

Correct Marks : 1 Wrong Marks : 0.25

In a group of five boys, A is younger than B. C is younger than B but elder than A. D is elder than E. B is younger than E. Who is the second eldest boy of the group?

Options :

1. ✗ A
2. ✗ C
3. ✗ D
4. ✓ E

Question Number : 16 Question Id : 5459276682 Question Type : MCQ Option Shuffling : Yes Display Question Number : Yes Single Line Question Option : No Option Orientation : Vertical

Correct Marks : 1 Wrong Marks : 0.25

पाँच लडको के एक समूह में, A, B से छोटा है C, B से छोटा है लेकिन A से बड़ा है D, E से बड़ा है B, E से छोटा है समूह का दूसरा सबसे बड़ा लडका कौन है?

Options :

1. ✗ A
2. ✗ C
3. ✗ D
4. ✓ E

Question Number : 17 Question Id : 5459276683 Question Type : MCQ Option Shuffling : Yes Display Question Number : Yes Single Line Question Option : No Option Orientation : Vertical

Correct Marks : 1 Wrong Marks : 0.25

There are seven persons in a group P, Q, R, S, T, U and V. Their ages are different from each other. Out of them only Q is younger than S. Only four persons are younger than R. U is younger than T. P is elder than U but younger than V and T. Which of the following statement(s) is/are correct?

- I. Only three persons are elder than U.
- II. Only four persons are elder than P.
- III. Only three persons are younger than P.
- IV. V is elder than R.

Options :

1. ✗ Only III
2. ✓ III and IV
3. ✗ II and III
4. ✗ Only IV

Question Number : 17 Question Id : 5459276683 Question Type : MCQ Option Shuffling : Yes Display Question Number : Yes Single Line Question Option : No Option Orientation : Vertical

Correct Marks : 1 Wrong Marks : 0.25

एक समूह में P, Q, R, S, T, U और V सात व्यक्ति हैं। इनकी उम्र एक दूसरे से अलग-अलग है। उनमें से केवल Q, S से छोटा है। केवल चार व्यक्ति R से छोटे हैं। U, T से छोटा है। P, U से बड़ा है, लेकिन V और T से छोटा है। निम्नलिखित में से कौन सा/से कथन सही है/हैं?

- I. केवल तीन व्यक्ति U से बड़े हैं।
- II. केवल चार व्यक्ति P से बड़े हैं।
- III. केवल तीन व्यक्ति P से छोटे हैं।
- IV. V, R से बड़ा है।

Options :

1. ✘ केवल III
2. ✔ III और IV
3. ✘ II और III
4. ✘ केवल IV

Question Number : 18 Question Id : 5459276684 Question Type : MCQ Option Shuffling : Yes Display Question Number : Yes Single Line Question Option : No Option Orientation : Vertical

Correct Marks : 1 Wrong Marks : 0.25

In the following question below are given some statements followed by some conclusions based on those statements. Taking the given statements to be true even if they seem to be at variance from commonly known facts. Read all the conclusions and then decide which of the given conclusion logically follows the given statements.

Statements:

- I. All pens are pencils.
- II. Some pencils are books.

Conclusions:

- I. All books are pencils.
- II. Some pencils are pens.

Options :

1. ✘ Only conclusion I follow
2. ✔ Only conclusion II follow
3. ✘ Both conclusion I and II follow
4. ✘ Neither conclusion follow

Question Number : 18 Question Id : 5459276684 Question Type : MCQ Option Shuffling : Yes Display Question Number : Yes Single Line Question Option : No Option Orientation : Vertical

Correct Marks : 1 Wrong Marks : 0.25

नीचे दिए गए प्रश्न में कुछ कथन और उनके बाद उन कथनों पर आधारित कुछ निष्कर्ष दिए गए हैं। दिए गए कथनों को सही माने, चाहे उनमें सामान्य ज्ञात तथ्यों से भिन्नता हो। सभी निष्कर्ष पढ़ें और फिर निर्धारित करें कि दिए गए कौन से निष्कर्ष, दिए गए कथनों के आधार पर युक्तिसंगत हैं।

कथन:

- I. सभी कलम पेंसिल हैं।
- II. कुछ पेंसिल किताब हैं।

निष्कर्ष:

- I. सभी किताब पेंसिल हैं।
- II. कुछ पेंसिल कलम हैं।

Options :

1. ✘ केवल निष्कर्ष I अनुसरण करता है।
2. ✔ केवल निष्कर्ष II अनुसरण करता है।
3. ✘ दोनों निष्कर्ष I तथा II अनुसरण करते हैं।
4. ✘ कोई भी निष्कर्ष अनुसरण नहीं करता है।

Question Number : 19 Question Id : 5459276685 Question Type : MCQ Option Shuffling : Yes Display Question Number : Yes
Single Line Question Option : No Option Orientation : Vertical

Correct Marks : 1 Wrong Marks : 0.25

In the following question below are given some statements followed by some conclusions based on those statements. Taking the given statements to be true even if they seem to be at variance from commonly known facts. Read all the conclusions and then decide which of the given conclusion logically follows the given statements.

Statements:

- I. All chairs are cups.
- II. All cups are tables.
- III. All tables are pens.

Conclusions:

- I. Some pens are chairs.
- II. All tables are chairs.
- III. Some chairs are tables.

Options :

1. ✓ Only conclusion I and III follow
2. ✗ Only conclusion I and II follow
3. ✗ Only conclusion II and III follow
4. ✗ All conclusion I, II and III follow

Question Number : 19 Question Id : 5459276685 Question Type : MCQ Option Shuffling : Yes Display Question Number : Yes
Single Line Question Option : No Option Orientation : Vertical

Correct Marks : 1 Wrong Marks : 0.25

नीचे दिए गए प्रश्न में कुछ कथन और उनके बाद उन कथनों पर आधारित कुछ निष्कर्ष दिए गए हैं। दिए गए कथनों को सही माने, चाहे उनमें सामान्य ज्ञात तथ्यों से भिन्नता हो। सभी निष्कर्ष पढ़ें और फिर निर्धारित करें कि दिए गए कौन से निष्कर्ष, दिए गए कथनों के आधार पर युक्तिसंगत हैं।

कथन:

- I. सभी कुर्सियां कप हैं।
- II. सभी कप मेज हैं।
- III. सभी मेज कलम हैं।

निष्कर्ष:

- I. कुछ कलम कुर्सियां हैं।
- II. सभी मेज कुर्सियां हैं।
- III. कुछ कुर्सियां मेज हैं।

Options :

1. ✓ केवल निष्कर्ष I तथा III अनुसरण करते हैं।
2. ✗ केवल निष्कर्ष I तथा II अनुसरण करते हैं।
3. ✗ केवल निष्कर्ष II तथा III अनुसरण करते हैं।
4. ✗ सभी निष्कर्ष I, II तथा III अनुसरण करते हैं।

Question Number : 20 Question Id : 5459276686 Question Type : MCQ Option Shuffling : Yes Display Question Number : Yes
Single Line Question Option : No Option Orientation : Vertical

Correct Marks : 1 Wrong Marks : 0.25

In the following question, select the number which can be placed at the sign of question mark (?) from the given alternatives.

14	15
16	2025

21	22
23	4356

18	19
20	?

Options :

1. ✓ 3249

2. ✘ 3762
 3. ✘ 4529
 4. ✘ 3679

Question Number : 20 Question Id : 5459276686 Question Type : MCQ Option Shuffling : Yes Display Question Number : Yes
 Single Line Question Option : No Option Orientation : Vertical

Correct Marks : 1 Wrong Marks : 0.25

निम्नलिखित प्रश्न में दिए गए विकल्पों में से प्रश्न चिन्ह (?) के स्थान पर आने वाली संख्या को चुनिए।

14	15
16	2025

21	22
23	4356

18	19
20	?

Options :

1. ✔ 3249
 2. ✘ 3762
 3. ✘ 4529
 4. ✘ 3679

Mental Ability2

Group Number :	2
Group Id :	545927332
Group Maximum Duration :	0
Group Minimum Duration :	0
Revisit allowed for view? :	No
Revisit allowed for edit? :	No
Break time:	0
Group Marks:	20
Revisit allowed for group Instructions? :	Yes
Maximum Instruction Time:	0
Minimum Instruction Time:	0

Mental Ability2

Section Id :	545927332
Section Number :	1
Section type :	Online
Mandatory or Optional:	Mandatory
Number of Questions:	20
Number of Questions to be attempted:	20
Section Marks:	20
Display Number Panel:	Yes
Group All Questions:	No

Sub-Section Number:	1
Sub-Section Id:	545927398
Question Shuffling Allowed :	Yes

Question Number : 21 Question Id : 5459276687 Question Type : MCQ Option Shuffling : Yes Display Question Number : Yes
Single Line Question Option : No Option Orientation : Vertical

Correct Marks : 1 Wrong Marks : 0.25

In the following question, select the number which can be placed at the sign of question mark (?) from the given alternatives.

10	12	7	11
13	9	14	6
8	15	20	16
333	450	?	413

Options :

- ✘ 545
- ✘ 725
- ✔ 645
- ✘ 675

Question Number : 21 Question Id : 5459276687 Question Type : MCQ Option Shuffling : Yes Display Question Number : Yes
Single Line Question Option : No Option Orientation : Vertical

Correct Marks : 1 Wrong Marks : 0.25

निम्नलिखित प्रश्न में दिए गए विकल्पों में से प्रश्न चिन्ह (?) के स्थान पर आने वाली संख्या को चुनिए

10	12	7	11
13	9	14	6
8	15	20	16
333	450	?	413

Options :

- ✘ 545
- ✘ 725
- ✔ 645
- ✘ 675

Question Number : 22 Question Id : 5459276688 Question Type : MCQ Option Shuffling : Yes Display Question Number : Yes
Single Line Question Option : No Option Orientation : Vertical

Correct Marks : 1 Wrong Marks : 0.25

In the following question, select the related number from the given alternatives.

2626 : 650 :: 3636 : ?

Options :

- ✘ 960
- ✘ 1280
- ✘ 780
- ✔ 1260

Question Number : 22 Question Id : 5459276688 Question Type : MCQ Option Shuffling : Yes Display Question Number : Yes
Single Line Question Option : No Option Orientation : Vertical

Correct Marks : 1 Wrong Marks : 0.25

निम्नलिखित प्रश्न में दिए गए विकल्पों में से संबंधित संख्या को चुनिए

2626 : 650 :: 3636 : ?

Options :

1. ✘ 960
2. ✘ 1280
3. ✘ 780
4. ✔ 1260

Question Number : 23 Question Id : 5459276689 Question Type : MCQ Option Shuffling : Yes Display Question Number : Yes
Single Line Question Option : No Option Orientation : Vertical

Correct Marks : 1 Wrong Marks : 0.25

In the following question, select the related number from the given alternatives.

468 : 2108 :: 378 : ?

Options :

1. ✘ 1389
2. ✔ 1361
3. ✘ 1271
4. ✘ 1099

Question Number : 23 Question Id : 5459276689 Question Type : MCQ Option Shuffling : Yes Display Question Number : Yes
Single Line Question Option : No Option Orientation : Vertical

Correct Marks : 1 Wrong Marks : 0.25

निम्नलिखित प्रश्न में दिए गए विकल्पों में से संबंधित संख्या को चुनिए।

468 : 2108 :: 378 : ?

Options :

1. ✘ 1389
2. ✔ 1361
3. ✘ 1271
4. ✘ 1099

Question Number : 24 Question Id : 5459276690 Question Type : MCQ Option Shuffling : Yes Display Question Number : Yes
Single Line Question Option : No Option Orientation : Vertical

Correct Marks : 1 Wrong Marks : 0.25

In the following question, select the missing number from the given series.

2, 6, 12, 20, 30, ?

Options :

1. ✘ 56
2. ✔ 42
3. ✘ 40
4. ✘ 48

Question Number : 24 Question Id : 5459276690 Question Type : MCQ Option Shuffling : Yes Display Question Number : Yes
Single Line Question Option : No Option Orientation : Vertical

Correct Marks : 1 Wrong Marks : 0.25

निम्नलिखित प्रश्न में दी गई श्रृंखला में से लुप्त अंक ज्ञात कीजिए।

2, 6, 12, 20, 30, ?

Options :

1. ✘ 56

2. ✓ 42
3. ✗ 40
4. ✗ 48

Question Number : 25 Question Id : 5459276691 Question Type : MCQ Option Shuffling : Yes Display Question Number : Yes
Single Line Question Option : No Option Orientation : Vertical

Correct Marks : 1 Wrong Marks : 0.25

In the following question, select the missing number from the given series.

0, 10, 24, 68, 120, ?

Options :

1. ✗ 168
2. ✗ 252
3. ✓ 222
4. ✗ 210

Question Number : 25 Question Id : 5459276691 Question Type : MCQ Option Shuffling : Yes Display Question Number : Yes
Single Line Question Option : No Option Orientation : Vertical

Correct Marks : 1 Wrong Marks : 0.25

निम्नलिखित प्रश्न में दी गई श्रृंखला में से लुप्त अंक ज्ञात कीजिए

0, 10, 24, 68, 120, ?

Options :

1. ✗ 168
2. ✗ 252
3. ✓ 222
4. ✗ 210

Question Number : 26 Question Id : 5459276692 Question Type : MCQ Option Shuffling : Yes Display Question Number : Yes
Single Line Question Option : No Option Orientation : Vertical

Correct Marks : 1 Wrong Marks : 0.25

In the following question, four number pairs are given. The number on left side of (-) is related to the number of the right side of (-) with some Logic/Rule/Relation. Three are similar on basis of same Logic/Rule/Relation. Select the odd one out from the given alternatives.

Options :

1. ✓ 38 - 1444
2. ✗ 52 - 2703
3. ✗ 43 - 1848
4. ✗ 41 - 1680

Question Number : 26 Question Id : 5459276692 Question Type : MCQ Option Shuffling : Yes Display Question Number : Yes
Single Line Question Option : No Option Orientation : Vertical

Correct Marks : 1 Wrong Marks : 0.25

नीचे दिए गए प्रश्न में, चार संख्या युग्म दिए गए हैं (-) के बायीं ओर दी गई संख्या (-) के दायीं ओर दी गई संख्या से किसी तर्क/नियम/संबंध से संबंधित है। तीन उसी एक तर्क/नियम/संबंध के आधार पर समान हैं। दिए गए विकल्पों में से विषम को चुनिए।

Options :

1. ✓ 38 - 1444
2. ✗ 52 - 2703
3. ✗ 43 - 1848
4. ✗ 41 - 1680

Question Number : 27 Question Id : 5459276693 Question Type : MCQ Option Shuffling : Yes Display Question Number : Yes
Single Line Question Option : No Option Orientation : Vertical

Correct Marks : 1 Wrong Marks : 0.25

In the following question, four number pairs are given. The number on left side of (-) is related to the number of the right side of (-) with some Logic/Rule/Relation. Three are similar on basis of same Logic/Rule/Relation. Select the odd one out from the given alternatives.

Options :

1. ✘ 26 - 40
2. ✘ 53 - 34
3. ✘ 47 - 65
4. ✔ 64 - 61

Question Number : 27 Question Id : 5459276693 Question Type : MCQ Option Shuffling : Yes Display Question Number : Yes
Single Line Question Option : No Option Orientation : Vertical

Correct Marks : 1 Wrong Marks : 0.25

नीचे दिए गए प्रश्न में, चार संख्या युग्म दिए गए हैं (-) के बायीं ओर दी गई संख्या (-) के दायीं ओर दी गई संख्या से किसी तर्क/नियम/संबंध से संबंधित है। तीन उसी एक तर्क/नियम/संबंध के आधार पर समान हैं। दिए गए विकल्पों में से विषम को चुनिए।

Options :

1. ✘ 26 - 40
2. ✘ 53 - 34
3. ✘ 47 - 65
4. ✔ 64 - 61

Question Number : 28 Question Id : 5459276694 Question Type : MCQ Option Shuffling : Yes Display Question Number : Yes
Single Line Question Option : No Option Orientation : Vertical

Correct Marks : 1 Wrong Marks : 0.25

If 'A' means '×', 'B' means '÷', 'C' means '+' and 'D' means '-', then $4 A 15 C 42 B 14 A 6 D 18 = ?$

Options :

1. ✘ 56
2. ✘ 42
3. ✔ 60
4. ✘ 48

Question Number : 28 Question Id : 5459276694 Question Type : MCQ Option Shuffling : Yes Display Question Number : Yes
Single Line Question Option : No Option Orientation : Vertical

Correct Marks : 1 Wrong Marks : 0.25

यदि 'A' का अर्थ '×', 'B' का अर्थ '÷', 'C' का अर्थ '+' तथा 'D' का अर्थ '-' हो, तो $4 A 15 C 42 B 14 A 6 D 18 = ?$

Options :

1. ✘ 56
2. ✘ 42
3. ✔ 60
4. ✘ 48

Question Number : 29 Question Id : 5459276695 Question Type : MCQ Option Shuffling : Yes Display Question Number : Yes
Single Line Question Option : No Option Orientation : Vertical

Correct Marks : 1 Wrong Marks : 0.25

If 'P' means '×', 'Q' means '÷', 'R' means '+' and 'S' means '-', then $72 Q 6 S 12 R 10 P 2 = ?$

Options :

1. ✔ 20

2. ✖ 12
3. ✖ 24
4. ✖ 16

Question Number : 29 Question Id : 5459276695 Question Type : MCQ Option Shuffling : Yes Display Question Number : Yes
Single Line Question Option : No Option Orientation : Vertical

Correct Marks : 1 Wrong Marks : 0.25

यदि 'P' का अर्थ '×', 'Q' का अर्थ '+', 'R' का अर्थ '+' तथा 'S' का अर्थ '-' हो, तो $72 Q 6 S 12 R 10 P 2 = ?$

Options :

1. ✔ 20
2. ✖ 12
3. ✖ 24
4. ✖ 16

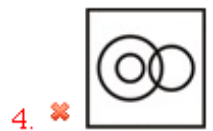
Question Number : 30 Question Id : 5459276696 Question Type : MCQ Option Shuffling : Yes Display Question Number : Yes
Single Line Question Option : No Option Orientation : Vertical

Correct Marks : 1 Wrong Marks : 0.25

Identify the diagram that best represents the relationship among the given classes.

Mother, Women, Father

Options :



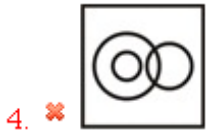
Question Number : 30 Question Id : 5459276696 Question Type : MCQ Option Shuffling : Yes Display Question Number : Yes
Single Line Question Option : No Option Orientation : Vertical

Correct Marks : 1 Wrong Marks : 0.25

वह आरेख चुनिए जो नीचे दिए गए वर्गों के बीच के संबंध का सही निरूपण करता है।

माता, महिलाएँ, पिता

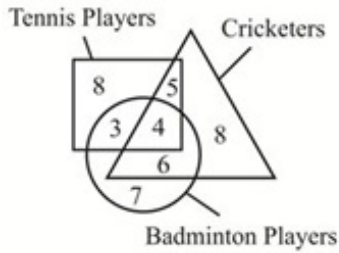
Options :



Question Number : 31 Question Id : 5459276697 Question Type : MCQ Option Shuffling : Yes Display Question Number : Yes Single Line Question Option : No Option Orientation : Vertical

Correct Marks : 1 Wrong Marks : 0.25

In the given figure, how many cricketers are tennis players?



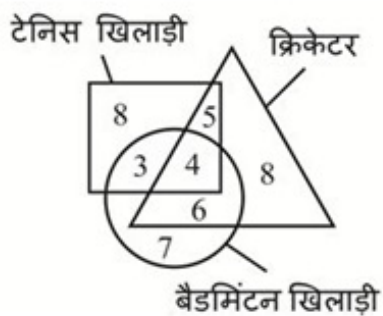
Options :

- 1. ✔ 9
- 2. ✘ 8
- 3. ✘ 7
- 4. ✘ 12

Question Number : 31 Question Id : 5459276697 Question Type : MCQ Option Shuffling : Yes Display Question Number : Yes Single Line Question Option : No Option Orientation : Vertical

Correct Marks : 1 Wrong Marks : 0.25

दी गई आकृति में कितने क्रिकेटर टेनिस के खिलाड़ी है?



Options :

1. ✓ 9
2. ✗ 8
3. ✗ 7
4. ✗ 12

Question Number : 32 Question Id : 5459276698 Question Type : MCQ Option Shuffling : Yes Display Question Number : Yes
Single Line Question Option : No Option Orientation : Vertical

Correct Marks : 1 Wrong Marks : 0.25

A girl walks towards north. She turns right, then turns left and then finally turns towards left. Which direction is she facing now?

Options :

1. ✗ East
2. ✓ West
3. ✗ North
4. ✗ South

Question Number : 32 Question Id : 5459276698 Question Type : MCQ Option Shuffling : Yes Display Question Number : Yes
Single Line Question Option : No Option Orientation : Vertical

Correct Marks : 1 Wrong Marks : 0.25

एक लड़की उत्तर की ओर चलती है। वह दाएं मुड़ती है, फिर बाएं मुड़ती है और फिर अंततः बाएं ओर मुड़ती है। अब उसका मुख किस दिशा की ओर है?

Options :

1. ✗ पूर्व
2. ✓ पश्चिम
3. ✗ उत्तर
4. ✗ दक्षिण

Question Number : 33 Question Id : 5459276699 Question Type : MCQ Option Shuffling : Yes Display Question Number : Yes
Single Line Question Option : No Option Orientation : Vertical

Correct Marks : 1 Wrong Marks : 0.25

Sushila walks 50 metres towards north. Then she turns left and walks 40 metres. She again turns left and walks 30 metres. She finally turns left and walks 40 metres. In which direction and how many metres away is she now from the original position?

Options :

1. ✗ 20, South
2. ✗ 10, North
3. ✗ 15, South
4. ✓ 20, North

Question Number : 33 Question Id : 5459276699 Question Type : MCQ Option Shuffling : Yes Display Question Number : Yes
Single Line Question Option : No Option Orientation : Vertical

Correct Marks : 1 Wrong Marks : 0.25

सुशीला 50 मीटर उत्तर की ओर चलती है। वह फिर बाएं मुड़ती है और 40 मीटर चलती है। वह पुनः बाएं मुड़ती है और 30 मीटर चलती है। वह अंततः बाएं मुड़ती है और 40 मीटर चलती है। वह प्रारंभिक स्थान से अब किस दिशा में तथा कितने मीटर दूर है?

Options :

1. ✗ 20, दक्षिण
2. ✗ 10, उत्तर
3. ✗ 15, दक्षिण
4. ✓ 20, उत्तर

Question Number : 34 Question Id : 5459276700 Question Type : MCQ Option Shuffling : Yes Display Question Number : Yes
Single Line Question Option : No Option Orientation : Vertical

Correct Marks : 1 Wrong Marks : 0.25

In the following question, select the figure which can be placed at the sign of question mark (?) from the given alternatives.

A	J	T	A	P	T	L	Q	?
T	P	Q	L	J	A	A	T	

Options :

1. ✓

A	J
T	P

2. ✗

L	A
Q	T

3. ✗

A	T
L	Q

4. ✗

A	T
P	J

Question Number : 34 Question Id : 5459276700 Question Type : MCQ Option Shuffling : Yes Display Question Number : Yes
Single Line Question Option : No Option Orientation : Vertical

Correct Marks : 1 Wrong Marks : 0.25

निम्नलिखित प्रश्न में दिए गए विकल्पों में से प्रश्न चिन्ह (?) के स्थान पर आने वाली आकृति को चुनिए।

A	J	T	A	P	T	L	Q	?
T	P	Q	L	J	A	A	T	

Options :

1. ✓

A	J
T	P

2. ✗

L	A
Q	T

3. ✗

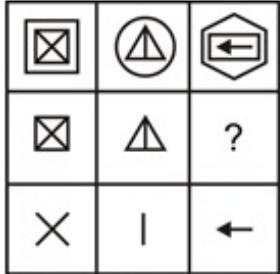
A	T
L	Q



Question Number : 35 Question Id : 5459276701 Question Type : MCQ Option Shuffling : Yes Display Question Number : Yes
Single Line Question Option : No Option Orientation : Vertical

Correct Marks : 1 Wrong Marks : 0.25

Which answer figure will complete the pattern in the question figure?



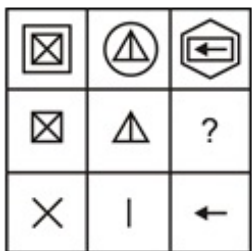
Options :



Question Number : 35 Question Id : 5459276701 Question Type : MCQ Option Shuffling : Yes Display Question Number : Yes
Single Line Question Option : No Option Orientation : Vertical

Correct Marks : 1 Wrong Marks : 0.25

कौन सी उत्तर आकृति प्रश्न आकृति के प्रतिरूप को पूरा करेगी?



Options :





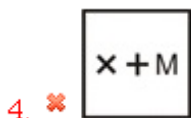
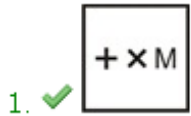
Question Number : 36 Question Id : 5459276702 Question Type : MCQ Option Shuffling : Yes Display Question Number : Yes
Single Line Question Option : No Option Orientation : Vertical

Correct Marks : 1 Wrong Marks : 0.25

कौन सी उत्तर आकृति प्रश्न आकृति के प्रतिरूप को पूरा करेगी?

+Mx	+xM	M+x
M+x	+Mx	?
+xM	M+x	+Mx

Options :



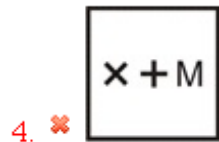

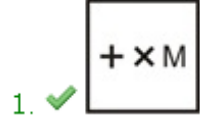
Question Number : 36 Question Id : 5459276702 Question Type : MCQ Option Shuffling : Yes Display Question Number : Yes
Single Line Question Option : No Option Orientation : Vertical

Correct Marks : 1 Wrong Marks : 0.25

Which answer figure will complete the pattern in the question figure?

+ M ×	+ × M	M + ×
M + ×	+ M ×	?
+ × M	M + ×	+ M ×

Options :



Question Number : 37 Question Id : 5459276703 Question Type : MCQ Option Shuffling : Yes Display Question Number : Yes
Single Line Question Option : No Option Orientation : Vertical

Correct Marks : 1 Wrong Marks : 0.25

Three positions of a dice are given below. What can come on the adjacent faces of a face containing '8'.



Options :

1. ✗ 7, H

2. ✗ A, 7

3. ✓ H, G

4. ✗ 7, G

Question Number : 37 Question Id : 5459276703 Question Type : MCQ Option Shuffling : Yes Display Question Number : Yes
Single Line Question Option : No Option Orientation : Vertical

Correct Marks : 1 Wrong Marks : 0.25

नीचे एक पासे की तीन अवस्थाएँ दी गयी है। '8' युक्त फलक की संलग्न फलकों पर क्या आ सकता है?



Options :

- ✘ 7, H
- ✘ A, 7
- ✔ H, G
- ✘ 7, G

Question Number : 38 Question Id : 5459276704 Question Type : MCQ Option Shuffling : Yes Display Question Number : Yes Single Line Question Option : No Option Orientation : Vertical

Correct Marks : 1 Wrong Marks : 0.25

Three positions of a dice are given below. What will come opposite to the face containing 'H'?



Options :

- ✘ 3
- ✘ 2
- ✘ 9
- ✔ L

Question Number : 38 Question Id : 5459276704 Question Type : MCQ Option Shuffling : Yes Display Question Number : Yes Single Line Question Option : No Option Orientation : Vertical

Correct Marks : 1 Wrong Marks : 0.25

नीचे एक पासे की तीन अवस्थाएँ दी गयी है। 'H' युक्त फलक के विपरीत क्या आएगा?



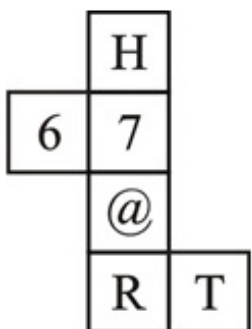
Options :

- ✘ 3
- ✘ 2
- ✘ 9
- ✔ L

Question Number : 39 Question Id : 5459276705 Question Type : MCQ Option Shuffling : Yes Display Question Number : Yes Single Line Question Option : No Option Orientation : Vertical

Correct Marks : 1 Wrong Marks : 0.25

By folding the given paper, which of the following box can be made?



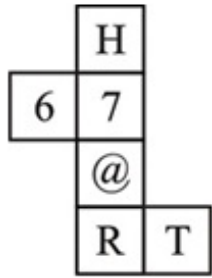
Options :



Question Number : 39 Question Id : 5459276705 Question Type : MCQ Option Shuffling : Yes Display Question Number : Yes
Single Line Question Option : No Option Orientation : Vertical

Correct Marks : 1 Wrong Marks : 0.25

दिये गये कागज को मोड़े जाने पर निम्नलिखित में से कौन सा बॉक्स बनाया जा सकता है?



Options :



Question Number : 40 Question Id : 5459276706 Question Type : MCQ Option Shuffling : Yes Display Question Number : Yes
Single Line Question Option : No Option Orientation : Vertical

Correct Marks : 1 Wrong Marks : 0.25

A big solid cube is coloured with red colour on two opposite faces, green colour on another two opposite faces and yellow colour on the remaining faces. Three cuts are made on the each axis of this cube. How many small cubes will have atleast one face coloured with red colour and a another face coloured with green colour?

Options :

1. ✘ 12
2. ✔ 16
3. ✘ 20
4. ✘ 8

Question Number : 40 Question Id : 5459276706 Question Type : MCQ Option Shuffling : Yes Display Question Number : Yes
Single Line Question Option : No Option Orientation : Vertical

Correct Marks : 1 Wrong Marks : 0.25

एक बड़े ठोस घन को दो विपरीत फलकों पर लाल रंग से, दो अन्य विपरीत फलकों पर हरे रंग से तथा शेष फलकों पर पीले रंग से रंगा गया है। इस घन की प्रत्येक अक्ष पर तीन कटाव लगाये गये हैं। कितने छोटे घनों की कम से कम एक फलक लाल रंग के साथ एक दूसरी फलक हरे रंग से रंगी गयी होगी?

Options :

1. ✘ 12
2. ✔ 16
3. ✘ 20
4. ✘ 8

General Awareness1

Group Number :	3
Group Id :	545927333
Group Maximum Duration :	0
Group Minimum Duration :	0
Revisit allowed for view? :	No
Revisit allowed for edit? :	No
Break time:	0
Group Marks:	20
Revisit allowed for group Instructions? :	Yes
Maximum Instruction Time:	0
Minimum Instruction Time:	0

General Awareness1

Section Id :	545927333
Section Number :	1
Section type :	Online
Mandatory or Optional:	Mandatory
Number of Questions:	20
Number of Questions to be attempted:	20
Section Marks:	20
Display Number Panel:	Yes
Group All Questions:	No

Sub-Section Number: 1
Sub-Section Id: 545927399
Question Shuffling Allowed : Yes

Question Number : 41 Question Id : 5459276707 Question Type : MCQ Option Shuffling : Yes Display Question Number : Yes
Single Line Question Option : No Option Orientation : Vertical

Correct Marks : 1 Wrong Marks : 0.25

Brita' or 'Vrita' dance is one of the most prominent dances of _____.

Options :

1. ✘ Orissa
2. ✔ West Bengal
3. ✘ Tamil Nadu
4. ✘ Andhra Pradesh

Question Number : 41 Question Id : 5459276707 Question Type : MCQ Option Shuffling : Yes Display Question Number : Yes
Single Line Question Option : No Option Orientation : Vertical

Correct Marks : 1 Wrong Marks : 0.25

'बृता' या 'वृता' नृत्य _____ के सबसे प्रमुख नृत्यों में से एक है।

Options :

1. ✘ उड़ीसा
2. ✔ पश्चिम बंगाल
3. ✘ तमिलनाडु
4. ✘ आंध्र प्रदेश

Question Number : 42 Question Id : 5459276708 Question Type : MCQ Option Shuffling : Yes Display Question Number : Yes
Single Line Question Option : No Option Orientation : Vertical

Correct Marks : 1 Wrong Marks : 0.25

Somnath temple is located in which state?

Options :

1. ✘ Rajasthan
2. ✔ Gujarat
3. ✘ Uttar Pradesh
4. ✘ Tami Nadu

Question Number : 42 Question Id : 5459276708 Question Type : MCQ Option Shuffling : Yes Display Question Number : Yes
Single Line Question Option : No Option Orientation : Vertical

Correct Marks : 1 Wrong Marks : 0.25

सोमनाथ मंदिर किस राज्य में स्थित है?

Options :

1. ✘ राजस्थान
2. ✔ गुजरात
3. ✘ उत्तर प्रदेश
4. ✘ तमिलनाडु

Question Number : 43 Question Id : 5459276709 Question Type : MCQ Option Shuffling : Yes Display Question Number : Yes
Single Line Question Option : No Option Orientation : Vertical

Correct Marks : 1 Wrong Marks : 0.25

Mopin is the festival of which state?

Options :

1. ✘ Andhra Pradesh

2. ✓ Arunachal Pradesh

3. ✗ Chhattisgarh

4. ✗ Madhya Pradesh

Question Number : 43 Question Id : 5459276709 Question Type : MCQ Option Shuffling : Yes Display Question Number : Yes
Single Line Question Option : No Option Orientation : Vertical

Correct Marks : 1 Wrong Marks : 0.25

मोपिन किस राज्य का त्यौहार है?

Options :

1. ✗ आंध्र प्रदेश

2. ✓ अरुणाचल प्रदेश

3. ✗ छत्तीसगढ़

4. ✗ मध्य प्रदेश

Question Number : 44 Question Id : 5459276710 Question Type : MCQ Option Shuffling : Yes Display Question Number : Yes
Single Line Question Option : No Option Orientation : Vertical

Correct Marks : 1 Wrong Marks : 0.25

Gangaur festival is celebrated in _____ state.

Options :

1. ✗ Gujarat

2. ✗ West Bengal

3. ✓ Rajasthan

4. ✗ Haryana

Question Number : 44 Question Id : 5459276710 Question Type : MCQ Option Shuffling : Yes Display Question Number : Yes
Single Line Question Option : No Option Orientation : Vertical

Correct Marks : 1 Wrong Marks : 0.25

गणगौर त्यौहार _____ राज्य में मनाया जाता है।

Options :

1. ✗ गुजरात

2. ✗ पश्चिम बंगाल

3. ✓ राजस्थान

4. ✗ हरियाणा

Question Number : 45 Question Id : 5459276711 Question Type : MCQ Option Shuffling : Yes Display Question Number : Yes
Single Line Question Option : No Option Orientation : Vertical

Correct Marks : 1 Wrong Marks : 0.25

In the Union Budget 2019-20, the government has announced which mission to ensure piped water supply?

Options :

1. ✗ Har khet ko paani

2. ✓ Jal Jeevan Mission

3. ✗ Jal Vikas Mission

4. ✗ Jal Kranti

Question Number : 45 Question Id : 5459276711 Question Type : MCQ Option Shuffling : Yes Display Question Number : Yes
Single Line Question Option : No Option Orientation : Vertical

Correct Marks : 1 Wrong Marks : 0.25

केंद्रीय बजट 2019-20 में, सरकार ने पाइप द्वारा जल आपूर्ति सुनिश्चित करने के लिए किस मिशन की घोषणा की है?

Options :

1. ✘ हर खेत को पानी
2. ✔ जल जीवन मिशन
3. ✘ जल विकास मिशन
4. ✘ जल क्रांति

Question Number : 46 Question Id : 5459276712 Question Type : MCQ Option Shuffling : Yes Display Question Number : Yes
Single Line Question Option : No Option Orientation : Vertical

Correct Marks : 1 Wrong Marks : 0.25

Which of the following has been imposed by RBI on banks for Defaulting NPA provisions?

Options :

1. ✔ Prompt Corrective Action Framework
2. ✘ Banks Corrective Framework
3. ✘ Non-Banking Framework
4. ✘ Action on Bank Framework

Question Number : 46 Question Id : 5459276712 Question Type : MCQ Option Shuffling : Yes Display Question Number : Yes
Single Line Question Option : No Option Orientation : Vertical

Correct Marks : 1 Wrong Marks : 0.25

आरबीआई ने डिफॉल्ट एन.पी.ए. प्रावधानों के लिए बैंकों पर निम्नलिखित में से क्या लगाया है?

Options :

1. ✔ त्वरीत सुधारात्मक कार्रवाई (पीसीए) फ्रेमवर्क
2. ✘ बैंक सुधारात्मक फ्रेमवर्क
3. ✘ नॉन-बैंकिंग फ्रेमवर्क
4. ✘ बैंक फ्रेमवर्क पर कार्रवाई

Question Number : 47 Question Id : 5459276713 Question Type : MCQ Option Shuffling : Yes Display Question Number : Yes
Single Line Question Option : No Option Orientation : Vertical

Correct Marks : 1 Wrong Marks : 0.25

What was proposed by government Budget 2019-20 to sensitize society?

Options :

1. ✘ Vikaspedia
2. ✔ Gandhipedia
3. ✘ Nehrupedia
4. ✘ Swami Vivekanandpedia

Question Number : 47 Question Id : 5459276713 Question Type : MCQ Option Shuffling : Yes Display Question Number : Yes
Single Line Question Option : No Option Orientation : Vertical

Correct Marks : 1 Wrong Marks : 0.25

समाज को संवेदनशील बनाने के लिए सरकार ने 2019-20 बजट में क्या प्रस्तावना दी है?

Options :

1. ✘ विकासपिडिया
2. ✔ गाँधीपिडिया
3. ✘ नेहरूपिडिया
4. ✘ स्वामी विवेकानंदपिडिया

Question Number : 48 Question Id : 5459276714 Question Type : MCQ Option Shuffling : Yes Display Question Number : Yes
Single Line Question Option : No Option Orientation : Vertical

Correct Marks : 1 Wrong Marks : 0.25

What among the following statement(s) is/are true about acids?

- (I) Acids are bitter in taste.
- (II) Acids turn blue litmus red.
- (III) Acids are soapy to touch.
- (IV) Latin word for acid is "acere".

Options :

- 1. ✘ I and II
- 2. ✘ II and III
- 3. ✔ II and IV
- 4. ✘ I, II, III and IV

Question Number : 48 Question Id : 5459276714 Question Type : MCQ Option Shuffling : Yes Display Question Number : Yes
Single Line Question Option : No Option Orientation : Vertical

Correct Marks : 1 Wrong Marks : 0.25

अम्लों के बारे में निम्नलिखित में से कौन सा/से कथन सही है/हैं?

- (I) अम्ल स्वाद में कड़वे होते हैं।
- (II) अम्ल नीले लिटमस को लाल कर देते हैं।
- (III) अम्ल छूने में साबुनी होते हैं।
- (IV) अम्ल के लिए लैटिन शब्द "acere" है।

Options :

- 1. ✘ I तथा II
- 2. ✘ II तथा III
- 3. ✔ II तथा IV
- 4. ✘ I, II, III तथा IV

Question Number : 49 Question Id : 5459276715 Question Type : MCQ Option Shuffling : Yes Display Question Number : Yes
Single Line Question Option : No Option Orientation : Vertical

Correct Marks : 1 Wrong Marks : 0.25

Copper reacts with _____ but doesn't react with _____.

Options :

- 1. ✔ Dilute Hydrochloric acid, Sulphuric acid
- 2. ✘ Sulphuric acid, Dilute Hydrochloric acid
- 3. ✘ Dilute Hydrochloric acid, Phosphoric acid
- 4. ✘ Dilute Hydrochloric acid, Marshall's acid

Question Number : 49 Question Id : 5459276715 Question Type : MCQ Option Shuffling : Yes Display Question Number : Yes
Single Line Question Option : No Option Orientation : Vertical

Correct Marks : 1 Wrong Marks : 0.25

कॉपर _____ के साथ अभिक्रिया करता है, लेकिन _____ के साथ अभिक्रिया नहीं करता।

Options :

- 1. ✔ तनूकृत हाइड्रोक्लोरिक अम्ल, सल्फ्यूरिक अम्ल
- 2. ✘ सल्फ्यूरिक अम्ल, तनूकृत हाइड्रोक्लोरिक अम्ल
- 3. ✘ तनूकृत हाइड्रोक्लोरिक अम्ल, फॉस्फोरिक अम्ल
- 4. ✘ तनूकृत हाइड्रोक्लोरिक अम्ल, मार्शल का अम्ल

Question Number : 50 Question Id : 5459276716 Question Type : MCQ Option Shuffling : Yes Display Question Number : Yes
Single Line Question Option : No Option Orientation : Vertical

Correct Marks : 1 Wrong Marks : 0.25

Choose the incorrect statement.

Options :

1. ✓ Because of very small particle, beam of light gets scattered when pass through the solution
2. ✗ Solute particles of a solution don't settle down when left undisturbed
3. ✗ Solution is a homogeneous mixture
4. ✗ Particles of a solution can't be seen by naked eyes

Question Number : 50 Question Id : 5459276716 Question Type : MCQ Option Shuffling : Yes Display Question Number : Yes
Single Line Question Option : No Option Orientation : Vertical

Correct Marks : 1 Wrong Marks : 0.25

गलत कथन चुनो

Options :

1. ✓ बहुत छोटे कणों के कारण, प्रकाश का किरण जब विलयन से होकर गुजरती है तो प्रकीर्ण होती है।
2. ✗ एक अक्षुब्ध विलयन के विलेय कण जब नीचे नहीं बैठते
3. ✗ विलयन एक समांगी मिश्रण है।
4. ✗ किसी विलयन के कण नग्न आंखों से नहीं देखे जा सकते

Question Number : 51 Question Id : 5459276717 Question Type : MCQ Option Shuffling : Yes Display Question Number : Yes
Single Line Question Option : No Option Orientation : Vertical

Correct Marks : 1 Wrong Marks : 0.25

Which of the following was used as a unit of measurement in earlier times?

- I. Foot
- II. Yard
- III. Angel

Options :

1. ✗ I and II
2. ✗ I and III
3. ✗ II and III
4. ✓ I, II and III

Question Number : 51 Question Id : 5459276717 Question Type : MCQ Option Shuffling : Yes Display Question Number : Yes
Single Line Question Option : No Option Orientation : Vertical

Correct Marks : 1 Wrong Marks : 0.25

पुराने समय में निम्नलिखित में से किसका प्रयोग मापन के मात्रक के रूप में किया जाता था?

- I. फुट
- II. गज (यार्ड)
- III. ऐंजल

Options :

1. ✗ I तथा II
2. ✗ I तथा III
3. ✗ II तथा III
4. ✓ I, II तथा III

Question Number : 52 Question Id : 5459276718 Question Type : MCQ Option Shuffling : Yes Display Question Number : Yes
Single Line Question Option : No Option Orientation : Vertical

Correct Marks : 1 Wrong Marks : 0.25

A compass deflects when placed near a wire carrying electricity due to _____.

Options :

1. ✗ Lighting effect of electricity

- ✘ Heating effect of electricity
- ✔ Magnetic effect of electricity
- ✘ Speed of flow of electricity

Question Number : 52 Question Id : 5459276718 Question Type : MCQ Option Shuffling : Yes Display Question Number : Yes
Single Line Question Option : No Option Orientation : Vertical

Correct Marks : 1 Wrong Marks : 0.25

एक दिक्सूचक (कम्पास) जब एक विद्युत् प्रवाह वाले तार के पास रखा जाता है तो वह _____ के कारण विक्षेपित हो जाता है।

Options :

- ✘ विद्युत् धारा के प्रकाशीय प्रभाव
- ✘ विद्युत् धारा के तापीय प्रभाव
- ✔ विद्युत् धारा के चुंबकीय प्रभाव
- ✘ विद्युत् धारा के बहाव की गति

Question Number : 53 Question Id : 5459276719 Question Type : MCQ Option Shuffling : Yes Display Question Number : Yes
Single Line Question Option : No Option Orientation : Vertical

Correct Marks : 1 Wrong Marks : 0.25

Which of the following statement is true about $^{37}\text{C1}$ and $^{35}\text{C1}$?

Options :

- ✔ They have same number of protons.
- ✘ Their physical properties are same.
- ✘ They are isobars of same element.
- ✘ They have differed chemical properties.

Question Number : 53 Question Id : 5459276719 Question Type : MCQ Option Shuffling : Yes Display Question Number : Yes
Single Line Question Option : No Option Orientation : Vertical

Correct Marks : 1 Wrong Marks : 0.25

निम्नलिखित में से कौन सा कथन $^{37}\text{C1}$ और $^{35}\text{C1}$ के बारे में सही है?

Options :

- ✔ उनमें प्रोटॉनों की संख्या समान है।
- ✘ उनके भौतिक गुणधर्म समान हैं।
- ✘ वे एक ही तत्व के समभारिक हैं।
- ✘ उनके रासायनिक गुणधर्म भिन्न हैं।

Question Number : 54 Question Id : 5459276720 Question Type : MCQ Option Shuffling : Yes Display Question Number : Yes
Single Line Question Option : No Option Orientation : Vertical

Correct Marks : 1 Wrong Marks : 0.25

At puberty, Voice Box or Larynx _____.

Options :

- ✘ Begins to grow smaller in boys
- ✔ Begins to grow larger in boys
- ✘ Begins to grow larger in girls
- ✘ Remains of same size in girls

Question Number : 54 Question Id : 5459276720 Question Type : MCQ Option Shuffling : Yes Display Question Number : Yes
Single Line Question Option : No Option Orientation : Vertical

Correct Marks : 1 Wrong Marks : 0.25

यौवनारम्भ में स्वरयंत्र अथवा लैरिन्क्स _____।

Options :

1. ✘ लड़को में छोटा होने लगता है
2. ✔ लड़को में बड़ा होने लगता है
3. ✘ लड़कियों में बड़ा होने लगता है
4. ✘ लड़कियों में समान माप का रहता है

Question Number : 55 Question Id : 5459276721 Question Type : MCQ Option Shuffling : Yes Display Question Number : Yes
Single Line Question Option : No Option Orientation : Vertical

Correct Marks : 1 Wrong Marks : 0.25

Very large vacuoles are found in cells of _____.

Options :

1. ✘ Human beings
2. ✘ Fish
3. ✔ Tomato plant
4. ✘ E.Coli

Question Number : 55 Question Id : 5459276721 Question Type : MCQ Option Shuffling : Yes Display Question Number : Yes
Single Line Question Option : No Option Orientation : Vertical

Correct Marks : 1 Wrong Marks : 0.25

बहुत बड़ी रसधानियाँ की कोशिकाओं में पाई जाती हैं

Options :

1. ✘ मानव
2. ✘ मछली
3. ✔ टमाटर के पौधे
4. ✘ ई.कुली

Question Number : 56 Question Id : 5459276722 Question Type : MCQ Option Shuffling : Yes Display Question Number : Yes
Single Line Question Option : No Option Orientation : Vertical

Correct Marks : 1 Wrong Marks : 0.25

_____ range is also known as Western Ghats.

Options :

1. ✔ Sahyadri
2. ✘ Himadri
3. ✘ Purvanchal
4. ✘ Vindhya

Question Number : 56 Question Id : 5459276722 Question Type : MCQ Option Shuffling : Yes Display Question Number : Yes
Single Line Question Option : No Option Orientation : Vertical

Correct Marks : 1 Wrong Marks : 0.25

_____ श्रृंखला को पश्चिमी घाट के नाम से भी जाना जाता है

Options :

1. ✔ सह्याद्री
2. ✘ हिमाद्री
3. ✘ पूर्वांचल
4. ✘ विंध्य

Question Number : 57 Question Id : 5459276723 Question Type : MCQ Option Shuffling : Yes Display Question Number : Yes
Single Line Question Option : No Option Orientation : Vertical

Correct Marks : 1 Wrong Marks : 0.25

Human Development Index is given by which organization?

Options :

1. ✘ World Bank
2. ✘ United Nations Environment Programme
3. ✔ United Nations Development Programme
4. ✘ United Nations Human Rights Council

Question Number : 57 Question Id : 5459276723 Question Type : MCQ Option Shuffling : Yes Display Question Number : Yes
Single Line Question Option : No Option Orientation : Vertical

Correct Marks : 1 Wrong Marks : 0.25

मानव विकास सूचकांक का आंकलन किस संगठन द्वारा किया जाता है?

Options :

1. ✘ विश्व बैंक
2. ✘ संयुक्त राष्ट्र पर्यावरण कार्यक्रम
3. ✔ संयुक्त राष्ट्र विकास कार्यक्रम
4. ✘ संयुक्त राष्ट्र मानवाधिकार परिषद्

Question Number : 58 Question Id : 5459276724 Question Type : MCQ Option Shuffling : Yes Display Question Number : Yes
Single Line Question Option : No Option Orientation : Vertical

Correct Marks : 1 Wrong Marks : 0.25

Which of the following is a plantation crop?

Options :

1. ✘ Maize
2. ✘ Mustard
3. ✘ Paddy
4. ✔ Tea

Question Number : 58 Question Id : 5459276724 Question Type : MCQ Option Shuffling : Yes Display Question Number : Yes
Single Line Question Option : No Option Orientation : Vertical

Correct Marks : 1 Wrong Marks : 0.25

निम्नलिखित में से कौन सी रोपण फसल है?

Options :

1. ✘ मक्का
2. ✘ सरसों
3. ✘ धान
4. ✔ चाय

Question Number : 59 Question Id : 5459276725 Question Type : MCQ Option Shuffling : Yes Display Question Number : Yes
Single Line Question Option : No Option Orientation : Vertical

Correct Marks : 1 Wrong Marks : 0.25

निम्नलिखित में से कौन सा/से मृदा संरक्षण के तरीके हैं?

- I. सोपन कृषि
- II. समोच्च बाधाएँ
- III. रॉक डैम

Options :

1. ✘ I तथा II
2. ✘ II तथा III
3. ✘ I तथा III
4. ✔ I, II तथा III

Question Number : 59 Question Id : 5459276725 Question Type : MCQ Option Shuffling : Yes Display Question Number : Yes
Single Line Question Option : No Option Orientation : Vertical

Correct Marks : 1 Wrong Marks : 0.25

Which of the following is/are methods of conservation of soil?

- I. Terrace Farming
- II. Contour Barriers
- III. Rock Dam

Options :

- 1. ✘ I and II
- 2. ✘ II and III
- 3. ✘ I and III
- 4. ✔ I, II and III

Question Number : 60 Question Id : 5459276726 Question Type : MCQ Option Shuffling : Yes Display Question Number : Yes
Single Line Question Option : No Option Orientation : Vertical

Correct Marks : 1 Wrong Marks : 0.25

Rana Pratap Sagar Dam is built on which of the following river?

Options :

- 1. ✘ Jhelum
- 2. ✔ Chambal
- 3. ✘ Chenab
- 4. ✘ Ravi

Question Number : 60 Question Id : 5459276726 Question Type : MCQ Option Shuffling : Yes Display Question Number : Yes
Single Line Question Option : No Option Orientation : Vertical

Correct Marks : 1 Wrong Marks : 0.25

राणा प्रताप सागर बांध निम्नलिखित में से किस नदी पर बना हुआ है?

Options :

- 1. ✘ झेलम
- 2. ✔ चंबल
- 3. ✘ चेनाब
- 4. ✘ रावी

General Awareness2

Group Number :	4
Group Id :	545927334
Group Maximum Duration :	0
Group Minimum Duration :	0
Revisit allowed for view? :	No
Revisit allowed for edit? :	No
Break time:	0
Group Marks:	20
Revisit allowed for group Instructions? :	Yes
Maximum Instruction Time:	0
Minimum Instruction Time:	0

General Awareness2

Section Id :	545927334
Section Number :	1
Section type :	Online
Mandatory or Optional:	Mandatory
Number of Questions:	20
Number of Questions to be attempted:	20
Section Marks:	20
Display Number Panel:	Yes
Group All Questions:	No

Sub-Section Number:	1
Sub-Section Id:	545927400
Question Shuffling Allowed :	Yes

Question Number : 61 Question Id : 5459276727 Question Type : MCQ Option Shuffling : Yes Display Question Number : Yes
Single Line Question Option : No Option Orientation : Vertical

Correct Marks : 1 Wrong Marks : 0.25

Black soil is most suitable for which of the following crops?

Options :

1. ✓ Cotton
2. ✗ Paddy
3. ✗ Tea
4. ✗ Coffee

Question Number : 61 Question Id : 5459276727 Question Type : MCQ Option Shuffling : Yes Display Question Number : Yes
Single Line Question Option : No Option Orientation : Vertical

Correct Marks : 1 Wrong Marks : 0.25

निम्नलिखित में से किस फसल के लिए काली मृदा सबसे उपयुक्त है?

Options :

1. ✓ कपास
2. ✗ धान
3. ✗ चाय
4. ✗ कॉफी

Question Number : 62 Question Id : 5459276728 Question Type : MCQ Option Shuffling : Yes Display Question Number : Yes
Single Line Question Option : No Option Orientation : Vertical

Correct Marks : 1 Wrong Marks : 0.25

Which of the following object(s) belong to the Harappan Civilization?

- I. Pot
- II. Figurines
- III. Beads

Options :

1. ✗ I and II
2. ✗ II and III
3. ✗ I and III
4. ✓ I, II and III

Question Number : 62 Question Id : 5459276728 Question Type : MCQ Option Shuffling : Yes Display Question Number : Yes
Single Line Question Option : No Option Orientation : Vertical

Correct Marks : 1 Wrong Marks : 0.25

निम्नलिखित में से कौन सी वस्तु(एँ) हड़प्पा सभ्यता से संबंधित है/हैं?

- I. बर्तन
- II. मूर्तियाँ
- III. मोती

Options :

1. ✘ I तथा II
2. ✘ II तथा III
3. ✘ I तथा III
4. ✔ I, II तथा III

Question Number : 63 Question Id : 5459276729 Question Type : MCQ Option Shuffling : Yes Display Question Number : Yes
Single Line Question Option : No Option Orientation : Vertical

Correct Marks : 1 Wrong Marks : 0.25

Fort William College founded by Wellesley was located in _____.

Options :

1. ✘ Madras
2. ✘ Bombay
3. ✔ Calcutta
4. ✘ Punjab

Question Number : 63 Question Id : 5459276729 Question Type : MCQ Option Shuffling : Yes Display Question Number : Yes
Single Line Question Option : No Option Orientation : Vertical

Correct Marks : 1 Wrong Marks : 0.25

वेलेस्ली द्वारा स्थापित फोर्ट विलियम कॉलेज _____ में स्थित था।

Options :

1. ✘ मद्रास
2. ✘ बॉम्बे
3. ✔ कलकत्ता
4. ✘ पंजाब

Question Number : 64 Question Id : 5459276730 Question Type : MCQ Option Shuffling : Yes Display Question Number : Yes
Single Line Question Option : No Option Orientation : Vertical

Correct Marks : 1 Wrong Marks : 0.25

Bhimbetka rock shelters are located in which of the following state?

Options :

1. ✘ Mizoram
2. ✘ Manipur
3. ✘ Maharashtra
4. ✔ Madhya Pradesh

Question Number : 64 Question Id : 5459276730 Question Type : MCQ Option Shuffling : Yes Display Question Number : Yes
Single Line Question Option : No Option Orientation : Vertical

Correct Marks : 1 Wrong Marks : 0.25

भीमबेटका शैलाश्रय निम्नलिखित में से किस राज्य में स्थित है?

Options :

- ✘ मिजोरम
- ✘ मणिपुर
- ✘ महाराष्ट्र
- ✓ मध्य प्रदेश

Question Number : 65 Question Id : 5459276731 Question Type : MCQ Option Shuffling : Yes Display Question Number : Yes
Single Line Question Option : No Option Orientation : Vertical

Correct Marks : 1 Wrong Marks : 0.25

'Meghadūta' is a work of which of the following authors?

Options :

- ✘ Kautilya
- ✘ Bhaskara
- ✘ Banabhatta
- ✓ Kalidasa

Question Number : 65 Question Id : 5459276731 Question Type : MCQ Option Shuffling : Yes Display Question Number : Yes
Single Line Question Option : No Option Orientation : Vertical

Correct Marks : 1 Wrong Marks : 0.25

'मेघदूतम्' निम्नलिखित में से किस लेखक का कार्य है?

Options :

- ✘ कौटिल्य
- ✘ भास्कर
- ✘ बाणभट्ट
- ✓ कालिदास

Question Number : 66 Question Id : 5459276732 Question Type : MCQ Option Shuffling : Yes Display Question Number : Yes
Single Line Question Option : No Option Orientation : Vertical

Correct Marks : 1 Wrong Marks : 0.25

Jawaharlal Nehru was the President of which session of Congress?

Options :

- ✘ Bombay, 1929
- ✘ Gaya, 1929
- ✓ Lahore, 1929
- ✘ Madras, 1929

Question Number : 66 Question Id : 5459276732 Question Type : MCQ Option Shuffling : Yes Display Question Number : Yes
Single Line Question Option : No Option Orientation : Vertical

Correct Marks : 1 Wrong Marks : 0.25

जवाहर लाल नेहरू कांग्रेस के किस अधिवेशन के अध्यक्ष थे?

Options :

- ✘ बॉम्बे, 1929
- ✘ गया, 1929
- ✓ लाहौर, 1929
- ✘ मद्रास, 1929

Question Number : 67 Question Id : 5459276733 Question Type : MCQ Option Shuffling : Yes Display Question Number : Yes
Single Line Question Option : No Option Orientation : Vertical

Correct Marks : 1 Wrong Marks : 0.25

The last Mauryan king was killed by _____.

Options :

1. ✓ Pushyarnitra Shunga
2. ✗ Devabhuti
3. ✗ Agnimitra
4. ✗ Sanghmitra

Question Number : 67 Question Id : 5459276733 Question Type : MCQ Option Shuffling : Yes Display Question Number : Yes
Single Line Question Option : No Option Orientation : Vertical

Correct Marks : 1 Wrong Marks : 0.25

आखरी मोर्य राजा को _____ ने मारा था।

Options :

1. ✓ पुष्यामित्र शुंग
2. ✗ देवभुटी
3. ✗ अग्निमित्रा
4. ✗ संघमित्रा

Question Number : 68 Question Id : 5459276734 Question Type : MCQ Option Shuffling : Yes Display Question Number : Yes
Single Line Question Option : No Option Orientation : Vertical

Correct Marks : 1 Wrong Marks : 0.25

Which of the following Indian won the Commonwealth Secretary-General Innovation for Sustainable Development Award 2019?

Options :

1. ✗ Satya Nadella
2. ✓ Nitesh Kumar Jangir
3. ✗ Satish Dhawan
4. ✗ Steve Wozniak

Question Number : 68 Question Id : 5459276734 Question Type : MCQ Option Shuffling : Yes Display Question Number : Yes
Single Line Question Option : No Option Orientation : Vertical

Correct Marks : 1 Wrong Marks : 0.25

निम्नलिखित में से किस भारतीय ने कॉमनवेल्थ सेक्रेटरी-जनरल इनोवेशन फॉर सस्टेनेबल डेवलपमेंट अवार्ड 2019 जीता?

Options :

1. ✗ सत्य नडेला
2. ✓ नितेश कुमार जांगिड़
3. ✗ सतीश धवन
4. ✗ स्टीव वॉजनिएक

Question Number : 69 Question Id : 5459276735 Question Type : MCQ Option Shuffling : Yes Display Question Number : Yes
Single Line Question Option : No Option Orientation : Vertical

Correct Marks : 1 Wrong Marks : 0.25

In which category Jyoti Bhatt won the Padma Shri Award 2019?

Options :

1. ✗ Art-Dance
2. ✓ Art-Painting
3. ✗ Public Affairs
4. ✗ Social Work

Question Number : 69 Question Id : 5459276735 Question Type : MCQ Option Shuffling : Yes Display Question Number : Yes
Single Line Question Option : No Option Orientation : Vertical

Correct Marks : 1 Wrong Marks : 0.25

ज्योति भट्ट ने किस श्रेणी में 2019 पद्म श्री पुरस्कार जीता?

Options :

1. ✘ कला-नृत्य
2. ✔ कला-चित्रकला
3. ✘ लोक कार्य
4. ✘ सामाजिक कार्य

Question Number : 70 Question Id : 5459276736 Question Type : MCQ Option Shuffling : Yes Display Question Number : Yes
Single Line Question Option : No Option Orientation : Vertical

Correct Marks : 1 Wrong Marks : 0.25

"Imperfect" is an autobiography of _____.

Options :

1. ✘ Sourav Ganguly
2. ✘ Jason Roy
3. ✘ Mitchell Johnson
4. ✔ Sanjay Manjrekar

Question Number : 70 Question Id : 5459276736 Question Type : MCQ Option Shuffling : Yes Display Question Number : Yes
Single Line Question Option : No Option Orientation : Vertical

Correct Marks : 1 Wrong Marks : 0.25

"इम्पर्फेक्ट" _____ की आत्मकथा है।

Options :

1. ✘ सौरव गांगुली
2. ✘ जेसन रॉय
3. ✘ मिचेल जॉनसन
4. ✔ संजय मांजरेकर

Question Number : 71 Question Id : 5459276737 Question Type : MCQ Option Shuffling : Yes Display Question Number : Yes
Single Line Question Option : No Option Orientation : Vertical

Correct Marks : 1 Wrong Marks : 0.25

Who has won the Miss Universe Australia 2019 title?

Options :

1. ✘ Danielle Collis
2. ✘ Bella Kasimba
3. ✔ Priya Serrao
4. ✘ Anzhelika Tahir

Question Number : 71 Question Id : 5459276737 Question Type : MCQ Option Shuffling : Yes Display Question Number : Yes
Single Line Question Option : No Option Orientation : Vertical

Correct Marks : 1 Wrong Marks : 0.25

मिस यूनिवर्स ऑस्ट्रेलिया 2019 का खिताब किसने जीता है?

Options :

1. ✘ डेनियल कोलिस
2. ✘ बेला कासिंबा
3. ✔ प्रिया सेरराओ
4. ✘ अंजेलिका ताहिर

Question Number : 72 Question Id : 5459276738 Question Type : MCQ Option Shuffling : Yes Display Question Number : Yes
Single Line Question Option : No Option Orientation : Vertical

Correct Marks : 1 Wrong Marks : 0.25

Where are the headquarter of the United Nations Environment Programme located?

Options :

1. ✘ Wellington
2. ✔ Nairobi
3. ✘ Berlin
4. ✘ Addis Ababa

Question Number : 72 Question Id : 5459276738 Question Type : MCQ Option Shuffling : Yes Display Question Number : Yes
Single Line Question Option : No Option Orientation : Vertical

Correct Marks : 1 Wrong Marks : 0.25

संयुक्त राष्ट्र पर्यावरण कार्यक्रम का मुख्यालय कहाँ स्थित है?

Options :

1. ✘ वेलिंगटन
2. ✔ नैरोबी
3. ✘ बर्लिन
4. ✘ अदीस अबाबा

Question Number : 73 Question Id : 5459276739 Question Type : MCQ Option Shuffling : Yes Display Question Number : Yes
Single Line Question Option : No Option Orientation : Vertical

Correct Marks : 1 Wrong Marks : 0.25

Who has received the 'Save Water Hero Award 2019'?

Options :

1. ✔ Makarand Tiloo
2. ✘ Ginni Mahi
3. ✘ Shiv Visvanathan
4. ✘ Raman Singhla

Question Number : 73 Question Id : 5459276739 Question Type : MCQ Option Shuffling : Yes Display Question Number : Yes
Single Line Question Option : No Option Orientation : Vertical

Correct Marks : 1 Wrong Marks : 0.25

'सेव वाटर हीरो अवार्ड 2019' किसे मिला है?

Options :

1. ✔ मकरंद टिल्लू
2. ✘ गिन्नी माही
3. ✘ शिव विश्वनाथन
4. ✘ रमन सिंघला

Question Number : 74 Question Id : 5459276740 Question Type : MCQ Option Shuffling : Yes Display Question Number : Yes
Single Line Question Option : No Option Orientation : Vertical

Correct Marks : 1 Wrong Marks : 0.25

The term of each Panchayat body is _____ years.

Options :

1. ✔ 5
2. ✘ 6
3. ✘ 4
4. ✘ 3

Question Number : 74 Question Id : 5459276740 Question Type : MCQ Option Shuffling : Yes Display Question Number : Yes
Single Line Question Option : No Option Orientation : Vertical

Correct Marks : 1 Wrong Marks : 0.25

प्रत्येक पंचायत की अवधि _____ वर्ष होती है

Options :

1. ✓ 5
2. ✗ 6
3. ✗ 4
4. ✗ 3

Question Number : 75 Question Id : 5459276741 Question Type : MCQ Option Shuffling : Yes Display Question Number : Yes
Single Line Question Option : No Option Orientation : Vertical

Correct Marks : 1 Wrong Marks : 0.25

_____ cannot be enforce by the judiciary.

Options :

1. ✗ Right to Equality
2. ✗ Right to freedom
3. ✓ Directive Principles of State Policy
4. ✗ Right to Freedom of Religion

Question Number : 75 Question Id : 5459276741 Question Type : MCQ Option Shuffling : Yes Display Question Number : Yes
Single Line Question Option : No Option Orientation : Vertical

Correct Marks : 1 Wrong Marks : 0.25

_____ न्यायपालिका द्वारा प्रवर्तित नहीं किया जा सकता है

Options :

1. ✗ समता का अधिकार
2. ✗ स्वतंत्रता का अधिकार
3. ✓ राज्य की नीति के निदेशक तत्व
4. ✗ धर्म की स्वतंत्रता का अधिकार

Question Number : 76 Question Id : 5459276742 Question Type : MCQ Option Shuffling : Yes Display Question Number : Yes
Single Line Question Option : No Option Orientation : Vertical

Correct Marks : 1 Wrong Marks : 0.25

Right to freedom includes which of the following rights?

- I. Right to freedom of speech and expression
- II. Right to form associations or unions.
- III. Right to assemble peacefully and without arms

Options :

1. ✗ I and II
2. ✗ II and III
3. ✗ III and I
4. ✓ I, II and III

Question Number : 76 Question Id : 5459276742 Question Type : MCQ Option Shuffling : Yes Display Question Number : Yes
Single Line Question Option : No Option Orientation : Vertical

Correct Marks : 1 Wrong Marks : 0.25

स्वतंत्रता के अधिकार में निम्नलिखित में से कौन से अधिकार निहित हैं?

- I. वाक् एवं अभिव्यक्ति स्वतंत्रता का अधिकार
- II. संगम या संघ बनाने का अधिकार
- III. शांतिपूर्वक तथा निरायुध सम्मेलन का अधिकार

Options :

1. ✘ I तथा II
2. ✘ II तथा III
3. ✘ III तथा I
4. ✔ I, II तथा III

Question Number : 77 Question Id : 5459276743 Question Type : MCQ Option Shuffling : Yes Display Question Number : Yes
Single Line Question Option : No Option Orientation : Vertical

Correct Marks : 1 Wrong Marks : 0.25

Right to property was deleted from Fundamental Rights through which Amendment Act?

Options :

1. ✘ 34th Constitutional Amendment Act
2. ✘ 36th Constitutional Amendment Act
3. ✔ 44th Constitutional Amendment Act
4. ✘ 42nd Constitutional Amendment Act

Question Number : 77 Question Id : 5459276743 Question Type : MCQ Option Shuffling : Yes Display Question Number : Yes
Single Line Question Option : No Option Orientation : Vertical

Correct Marks : 1 Wrong Marks : 0.25

संपत्ति का अधिकार किस संशोधन अधिनियम के जरिये मूल अधिकारों से हटाया गया था?

Options :

1. ✘ 34 वां संविधान संशोधन अधिनियम
2. ✘ 36 वां संविधान संशोधन अधिनियम
3. ✔ 44 वां संविधान संशोधन अधिनियम
4. ✘ 42 वां संविधान संशोधन अधिनियम

Question Number : 78 Question Id : 5459276744 Question Type : MCQ Option Shuffling : Yes Display Question Number : Yes
Single Line Question Option : No Option Orientation : Vertical

Correct Marks : 1 Wrong Marks : 0.25

How many new formats of badminton games have been launched by the Badminton World Federation (BWF) in May 2019?

Options :

1. ✘ One
2. ✘ Three
3. ✔ Two
4. ✘ Four

Question Number : 78 Question Id : 5459276744 Question Type : MCQ Option Shuffling : Yes Display Question Number : Yes
Single Line Question Option : No Option Orientation : Vertical

Correct Marks : 1 Wrong Marks : 0.25

मई 2019 में बैडमिंटन वर्ल्ड फेडरेशन (BWF) द्वारा खेलों के कितने नए प्रारूप लॉन्च किए गए हैं?

Options :

1. ✘ एक
2. ✘ तीन

3. ✓ दो
4. ✗ चार

Question Number : 79 Question Id : 5459276745 Question Type : MCQ Option Shuffling : Yes Display Question Number : Yes
Single Line Question Option : No Option Orientation : Vertical

Correct Marks : 1 Wrong Marks : 0.25

How many medals have India won in Asian Wrestling championship 2019?

Options :

1. ✓ 16
2. ✗ 18
3. ✗ 23
4. ✗ 28

Question Number : 79 Question Id : 5459276745 Question Type : MCQ Option Shuffling : Yes Display Question Number : Yes
Single Line Question Option : No Option Orientation : Vertical

Correct Marks : 1 Wrong Marks : 0.25

एशियाई कुश्ती चैंपियनशिप 2019 में भारत ने कितने पदक जीते हैं?

Options :

1. ✓ 16
2. ✗ 18
3. ✗ 23
4. ✗ 28

Question Number : 80 Question Id : 5459276746 Question Type : MCQ Option Shuffling : Yes Display Question Number : Yes
Single Line Question Option : No Option Orientation : Vertical

Correct Marks : 1 Wrong Marks : 0.25

Which of the following player-game pair is not correctly?

- I. Tiger Woods - Badminton
- II. Naomi Osaka - Tennis
- III. Pankaj Advani - Snooker
- IV. Viswanathan Anand - Chess

Options :

1. ✓ I
2. ✗ II
3. ✗ III
4. ✗ IV

Question Number : 80 Question Id : 5459276746 Question Type : MCQ Option Shuffling : Yes Display Question Number : Yes
Single Line Question Option : No Option Orientation : Vertical

Correct Marks : 1 Wrong Marks : 0.25

निम्नलिखित में से कौन सा खिलाड़ी-खेल का युग्म सही नहीं है?

- I. टाइगर वुड्स - बैडमिंटन
- II. नाओमी ओसाका - टेनिस
- III. पंकज आडवाणी - स्नूकर
- IV. विश्वनाथन आनंद - शतरंज

Options :

1. ✓ I
2. ✗ II

- 3. ✖ III
- 4. ✖ IV

Arithmetic Ability1

Group Number :	5
Group Id :	545927335
Group Maximum Duration :	0
Group Minimum Duration :	0
Revisit allowed for view? :	No
Revisit allowed for edit? :	No
Break time:	0
Group Marks:	20
Revisit allowed for group Instructions? :	Yes
Maximum Instruction Time:	0
Minimum Instruction Time:	0

Arithmetic Ability1

Section Id :	545927335
Section Number :	1
Section type :	Online
Mandatory or Optional:	Mandatory
Number of Questions:	20
Number of Questions to be attempted:	20
Section Marks:	20
Display Number Panel:	Yes
Group All Questions:	No

Sub-Section Number:	1
Sub-Section Id:	545927401
Question Shuffling Allowed :	Yes

Question Number : 81 Question Id : 5459276747 Question Type : MCQ Option Shuffling : Yes Display Question Number : Yes
Single Line Question Option : No Option Orientation : Vertical
Correct Marks : 1 Wrong Marks : 0.25

What is the value of $\frac{(0.91)^3 - (0.31)^3}{(0.91)^2 + 0.91 \times 0.31 + (0.31)^2}$?

- Options :
- 1. ✔ 0.6
 - 2. ✖ 0.1
 - 3. ✖ 0.7
 - 4. ✖ 1.22

Question Number : 81 Question Id : 5459276747 Question Type : MCQ Option Shuffling : Yes Display Question Number : Yes
Single Line Question Option : No Option Orientation : Vertical
Correct Marks : 1 Wrong Marks : 0.25

$$\frac{(0.91)^3 - (0.31)^3}{(0.91)^2 + 0.91 \times 0.31 + (0.31)^2}$$
 का मान क्या है?

Options :

1. ✓ 0.6
2. ✗ 0.1
3. ✗ 0.7
4. ✗ 1.22

Question Number : 82 Question Id : 5459276748 Question Type : MCQ Option Shuffling : Yes Display Question Number : Yes
Single Line Question Option : No Option Orientation : Vertical

Correct Marks : 1 Wrong Marks : 0.25

If 725X is divisible by 125, then what is the value of X?

Options :

1. ✓ 0
2. ✗ 2
3. ✗ 5
4. ✗ 7

Question Number : 82 Question Id : 5459276748 Question Type : MCQ Option Shuffling : Yes Display Question Number : Yes
Single Line Question Option : No Option Orientation : Vertical

Correct Marks : 1 Wrong Marks : 0.25

यदि 725X, 125 से विभाज्य है, तो X का मान क्या है?

Options :

1. ✓ 0
2. ✗ 2
3. ✗ 5
4. ✗ 7

Question Number : 83 Question Id : 5459276749 Question Type : MCQ Option Shuffling : Yes Display Question Number : Yes
Single Line Question Option : No Option Orientation : Vertical

Correct Marks : 1 Wrong Marks : 0.25

$$\frac{1}{3} + \frac{1}{15} + \frac{1}{63} + \frac{1}{99}$$
 का मान क्या है?

Options :

1. ✗ 5/11
2. ✗ 10/11
3. ✓ 164/385
4. ✗ 172/285

Question Number : 83 Question Id : 5459276749 Question Type : MCQ Option Shuffling : Yes Display Question Number : Yes
Single Line Question Option : No Option Orientation : Vertical

Correct Marks : 1 Wrong Marks : 0.25

What is the value of $\frac{1}{3} + \frac{1}{15} + \frac{1}{63} + \frac{1}{99}$?

Options :

1. ✖ 5/11
2. ✖ 10/11
3. ✔ 164/385
4. ✖ 172/285

Question Number : 84 Question Id : 5459276750 Question Type : MCQ Option Shuffling : Yes Display Question Number : Yes
Single Line Question Option : No Option Orientation : Vertical

Correct Marks : 1 Wrong Marks : 0.25

निम्नलिखित में से कौन सा/से कथन सही है/हैं?

I. $(0.05)^2 > (0.7)^3$

II. $(0.7)^2 > (0.8)^3$

Options :

1. ✖ केवल I
2. ✖ केवल II
3. ✖ I तथा II दोनों
4. ✔ ना तो I ना तो II

Question Number : 84 Question Id : 5459276750 Question Type : MCQ Option Shuffling : Yes Display Question Number : Yes
Single Line Question Option : No Option Orientation : Vertical

Correct Marks : 1 Wrong Marks : 0.25

Which of the following statement(s) is/are correct?

I. $(0.05)^2 > (0.7)^3$

II. $(0.7)^2 > (0.8)^3$

Options :

1. ✖ Only I
2. ✖ Only II
3. ✖ Both I and II
4. ✔ Neither I nor II

Question Number : 85 Question Id : 5459276751 Question Type : MCQ Option Shuffling : Yes Display Question Number : Yes
Single Line Question Option : No Option Orientation : Vertical

Correct Marks : 1 Wrong Marks : 0.25

What is the value of $\frac{\frac{3}{4} \div \frac{9}{8} + \frac{4}{3} \times \frac{3}{18} + \frac{4}{7} \times \frac{21}{8}}{\frac{1}{2} \div \frac{4}{5} \times \frac{5}{6} + \frac{4}{5} \times \frac{15}{16}}$?

Options :

1. ✖ 255/178
2. ✖ 782/185
3. ✖ 538/139
4. ✔ 344/183

Question Number : 85 Question Id : 5459276751 Question Type : MCQ Option Shuffling : Yes Display Question Number : Yes
Single Line Question Option : No Option Orientation : Vertical

Correct Marks : 1 Wrong Marks : 0.25

$$\frac{\frac{3}{4} \div \frac{9}{8} + \frac{4}{3} \times \frac{3}{18} + \frac{4}{7} \times \frac{21}{8}}{\frac{1}{2} \div \frac{4}{5} \times \frac{5}{6} + \frac{4}{5} \times \frac{15}{16}} \text{ का मान क्या है?}$$

Options :

1. ✘ 255/178
2. ✘ 782/185
3. ✘ 538/139
4. ✔ 344/183

Question Number : 86 Question Id : 5459276752 Question Type : MCQ Option Shuffling : Yes Display Question Number : Yes
Single Line Question Option : No Option Orientation : Vertical

Correct Marks : 1 Wrong Marks : 0.25

If $A = 7 \div 14 + 3 \div 9 + 6 \div 8$ and $B = 9 \div 27 + 4 \div 12 + 3 \div 27$, then what is the value of $A^2 + B^2 - 2AB$?

Options :

1. ✔ 841/1296
2. ✘ 289/1225
3. ✘ 441/1225
4. ✘ 144/1225

Question Number : 86 Question Id : 5459276752 Question Type : MCQ Option Shuffling : Yes Display Question Number : Yes
Single Line Question Option : No Option Orientation : Vertical

Correct Marks : 1 Wrong Marks : 0.25

यदि $A = 7 \div 14 + 3 \div 9 + 6 \div 8$ तथा $B = 9 \div 27 + 4 \div 12 + 3 \div 27$, तो $A^2 + B^2 - 2AB$ का मान क्या है?

Options :

1. ✔ 841/1296
2. ✘ 289/1225
3. ✘ 441/1225
4. ✘ 144/1225

Question Number : 87 Question Id : 5459276753 Question Type : MCQ Option Shuffling : Yes Display Question Number : Yes
Single Line Question Option : No Option Orientation : Vertical

Correct Marks : 1 Wrong Marks : 0.25

If $A = \frac{1}{2} + \frac{1}{6} + \frac{1}{12} + \frac{1}{20}$ and $B = \frac{1}{3} + \frac{1}{15} + \frac{1}{35} + \frac{1}{63}$, then what is the value of $A + B$?

Options :

1. ✘ 41/45
2. ✘ 31/80
3. ✔ 56/45
4. ✘ 13/50

Question Number : 87 Question Id : 5459276753 Question Type : MCQ Option Shuffling : Yes Display Question Number : Yes
Single Line Question Option : No Option Orientation : Vertical

Correct Marks : 1 Wrong Marks : 0.25

यदि $A = \frac{1}{2} + \frac{1}{6} + \frac{1}{12} + \frac{1}{20}$ तथा $B = \frac{1}{3} + \frac{1}{15} + \frac{1}{35} + \frac{1}{63}$, तो $A + B$ का मान क्या है?

Options :

1. ✘ 41/45
2. ✘ 31/80
3. ✔ 56/45
4. ✘ 13/50

Question Number : 88 Question Id : 5459276754 Question Type : MCQ Option Shuffling : Yes Display Question Number : Yes
Single Line Question Option : No Option Orientation : Vertical

Correct Marks : 1 Wrong Marks : 0.25

What is the value of $\frac{\frac{3}{4} \div \frac{9}{16} + \frac{4}{5} \times \frac{125}{32} \div \frac{25}{8} + \frac{4}{5}}{\frac{3}{2} \div \frac{9}{4} + \frac{7}{4} + \frac{2}{3} - \frac{1}{6} + \frac{2}{5}}$?

Options :

1. ✘ 171/188
2. ✔ 188/199
3. ✘ 217/105
4. ✘ 312/225

Question Number : 88 Question Id : 5459276754 Question Type : MCQ Option Shuffling : Yes Display Question Number : Yes
Single Line Question Option : No Option Orientation : Vertical

Correct Marks : 1 Wrong Marks : 0.25

$\frac{\frac{3}{4} \div \frac{9}{16} + \frac{4}{5} \times \frac{125}{32} \div \frac{25}{8} + \frac{4}{5}}{\frac{3}{2} \div \frac{9}{4} + \frac{7}{4} + \frac{2}{3} - \frac{1}{6} + \frac{2}{5}}$ का मान क्या है?

Options :

1. ✘ 171/188
2. ✔ 188/199
3. ✘ 217/105
4. ✘ 312/225

Question Number : 89 Question Id : 5459276755 Question Type : MCQ Option Shuffling : Yes Display Question Number : Yes
Single Line Question Option : No Option Orientation : Vertical

Correct Marks : 1 Wrong Marks : 0.25

If $A = \frac{3}{7} \div \frac{9}{28} + \frac{1}{2} \times \frac{4}{5} + \frac{2}{3} \div \frac{4}{27}$ and $B = \frac{4}{5} \div \frac{2}{25} + \frac{5}{2} \times \frac{7}{11} \times \frac{33}{35}$, then what is the value of $A - B$?

Options :

1. ✔ -79/15
2. ✘ -87/20

3. ✖ 62/17

4. ✖ 90/19

Question Number : 89 Question Id : 5459276755 Question Type : MCQ Option Shuffling : Yes Display Question Number : Yes
Single Line Question Option : No Option Orientation : Vertical

Correct Marks : 1 Wrong Marks : 0.25

यदि $A = \frac{3}{7} \div \frac{9}{28} + \frac{1}{2} \times \frac{4}{5} + \frac{2}{3} \div \frac{4}{27}$ तथा $B = \frac{4}{5} \div \frac{2}{25} + \frac{5}{2} \times \frac{7}{11} \times \frac{33}{35}$ है, तो $A - B$ का मान क्या है?

Options :

1. ✔ -79/15

2. ✖ -87/20

3. ✖ 62/17

4. ✖ 90/19

Question Number : 90 Question Id : 5459276756 Question Type : MCQ Option Shuffling : Yes Display Question Number : Yes
Single Line Question Option : No Option Orientation : Vertical

Correct Marks : 1 Wrong Marks : 0.25

If $x = 7 + 4\sqrt{3}$, then what is the value of $\sqrt{x} + (1/\sqrt{x})$?

Options :

1. ✖ 2

2. ✖ 1

3. ✔ 4

4. ✖ 8

Question Number : 90 Question Id : 5459276756 Question Type : MCQ Option Shuffling : Yes Display Question Number : Yes
Single Line Question Option : No Option Orientation : Vertical

Correct Marks : 1 Wrong Marks : 0.25

यदि $x = 7 + 4\sqrt{3}$ है, तो $\sqrt{x} + (1/\sqrt{x})$ मान क्या है?

Options :

1. ✖ 2

2. ✖ 1

3. ✔ 4

4. ✖ 8

Question Number : 91 Question Id : 5459276757 Question Type : MCQ Option Shuffling : Yes Display Question Number : Yes
Single Line Question Option : No Option Orientation : Vertical

Correct Marks : 1 Wrong Marks : 0.25

The selling price of a phone is Rs 39200. If the phone is sold at a discount of 60%, then what will be the marked price of the phone?

Options :

1. ✖ Rs 96000

2. ✖ Rs 94500

3. ✖ Rs 92600

4. ✔ Rs 98000

Question Number : 91 Question Id : 5459276757 Question Type : MCQ Option Shuffling : Yes Display Question Number : Yes
Single Line Question Option : No Option Orientation : Vertical

Correct Marks : 1 Wrong Marks : 0.25

एक फोन का विक्रय मूल्य 39200 रुपये है। यदि फोन को 60% की छूट पर बेचा जाता है, तो फोन का अंकित मूल्य क्या होगा?

Options :

1. ✘ 96000 रुपये
2. ✘ 94500 रुपये
3. ✘ 92600 रुपये
4. ✔ 98000 रुपये

Question Number : 92 Question Id : 5459276758 Question Type : MCQ Option Shuffling : Yes Display Question Number : Yes
Single Line Question Option : No Option Orientation : Vertical

Correct Marks : 1 Wrong Marks : 0.25

Average of five numbers is 26. The average of first two numbers is $\frac{2}{3}$ times the average of last three numbers. What is the sum of last three numbers?

Options :

1. ✘ 40
2. ✘ 60
3. ✔ 90
4. ✘ 70

Question Number : 92 Question Id : 5459276758 Question Type : MCQ Option Shuffling : Yes Display Question Number : Yes
Single Line Question Option : No Option Orientation : Vertical

Correct Marks : 1 Wrong Marks : 0.25

पाँच संख्याओं का औसत 26 है। प्रथम दो संख्याओं का औसत अंतिम तीन संख्याओं के औसत का $\frac{2}{3}$ गुना है। अंतिम तीन संख्याओं का योग क्या है?

Options :

1. ✘ 40
2. ✘ 60
3. ✔ 90
4. ✘ 70

Question Number : 93 Question Id : 5459276759 Question Type : MCQ Option Shuffling : Yes Display Question Number : Yes
Single Line Question Option : No Option Orientation : Vertical

Correct Marks : 1 Wrong Marks : 0.25

The sum of three positive numbers N_1 , N_2 and N_3 is 150. The average of N_1 and N_2 is 51 and the average of N_2 and N_3 is 57. What is the value of N_2 ?

Options :

1. ✔ 66
2. ✘ 48
3. ✘ 36
4. ✘ 52

Question Number : 93 Question Id : 5459276759 Question Type : MCQ Option Shuffling : Yes Display Question Number : Yes
Single Line Question Option : No Option Orientation : Vertical

Correct Marks : 1 Wrong Marks : 0.25

तीन धनात्मक संख्याओं N_1 , N_2 तथा N_3 का योग 150 है। N_1 तथा N_2 का औसत 51 है तथा N_2 एवं N_3 का औसत 57 है। N_2 का मान क्या है?

Options :

1. ✔ 66
2. ✘ 48

3. ✖ 36

4. ✖ 52

Question Number : 94 Question Id : 5459276760 Question Type : MCQ Option Shuffling : Yes Display Question Number : Yes Single Line Question Option : No Option Orientation : Vertical

Correct Marks : 1 Wrong Marks : 0.25

220% of a value is 1430. What is 90% of this value?

Options :

1. ✖ 575

2. ✖ 605

3. ✖ 635

4. ✔ 585

Question Number : 94 Question Id : 5459276760 Question Type : MCQ Option Shuffling : Yes Display Question Number : Yes Single Line Question Option : No Option Orientation : Vertical

Correct Marks : 1 Wrong Marks : 0.25

एक मान का 220%, 1430 है इस मान का 90% क्या है?

Options :

1. ✖ 575

2. ✖ 605

3. ✖ 635

4. ✔ 585

Question Number : 95 Question Id : 5459276761 Question Type : MCQ Option Shuffling : Yes Display Question Number : Yes Single Line Question Option : No Option Orientation : Vertical

Correct Marks : 1 Wrong Marks : 0.25

The price of an article is first reduced by 33.33% and thereafter increased by 40%. What is the net change in the price of this article?

Options :

1. ✖ 6.66% increase

2. ✖ 10% increase

3. ✖ 10% decrease

4. ✔ 6.66% decrease

Question Number : 95 Question Id : 5459276761 Question Type : MCQ Option Shuffling : Yes Display Question Number : Yes Single Line Question Option : No Option Orientation : Vertical

Correct Marks : 1 Wrong Marks : 0.25

एक वस्तु के मूल्य को पहले 33.33% से कम किया गया तथा उसके पश्चात 40% की वृद्धि की गयी है। इस वस्तु के मूल्य में निवल (नेट) परिवर्तन क्या हुआ है?

Options :

1. ✖ 6.66% की वृद्धि

2. ✖ 10% की वृद्धि

3. ✖ 10% की कमी

4. ✔ 6.66% की कमी

Question Number : 96 Question Id : 5459276762 Question Type : MCQ Option Shuffling : Yes Display Question Number : Yes Single Line Question Option : No Option Orientation : Vertical

Correct Marks : 1 Wrong Marks : 0.25

If the number of articles sold increased by 25%, then by how much should the price per article be reduced so that the revenue remains same?

Options :

1. ✓ 20 Percent
2. ✗ 25 Percent
3. ✗ 15 Percent
4. ✗ 10 Percent

Question Number : 96 Question Id : 5459276762 Question Type : MCQ Option Shuffling : Yes Display Question Number : Yes
Single Line Question Option : No Option Orientation : Vertical

Correct Marks : 1 Wrong Marks : 0.25

यदि बेची गई वस्तुओं की संख्या 25% से बढ़ जाती है, तो प्रति वस्तु मूल्य कितने से कम किया जाये ताकी राजस्व समान रहे?

Options :

1. ✓ 20 प्रतिशत
2. ✗ 25 प्रतिशत
3. ✗ 15 प्रतिशत
4. ✗ 10 प्रतिशत

Question Number : 97 Question Id : 5459276763 Question Type : MCQ Option Shuffling : Yes Display Question Number : Yes
Single Line Question Option : No Option Orientation : Vertical

Correct Marks : 1 Wrong Marks : 0.25

The selling price of a watch is $\frac{7}{4}$ of the cost price. What is the profit Percentage?

Options :

1. ✗ 50 Percent
2. ✗ 125 Percent
3. ✓ 75 Percent
4. ✗ 25 Percent

Question Number : 97 Question Id : 5459276763 Question Type : MCQ Option Shuffling : Yes Display Question Number : Yes
Single Line Question Option : No Option Orientation : Vertical

Correct Marks : 1 Wrong Marks : 0.25

एक घड़ी का विक्रय मूल्य, क्रय मूल्य का $\frac{7}{4}$ है लाभ प्रतिशत क्या है?

Options :

1. ✗ 50 प्रतिशत
2. ✗ 125 प्रतिशत
3. ✓ 75 प्रतिशत
4. ✗ 25 प्रतिशत

Question Number : 98 Question Id : 5459276764 Question Type : MCQ Option Shuffling : Yes Display Question Number : Yes
Single Line Question Option : No Option Orientation : Vertical

Correct Marks : 1 Wrong Marks : 0.25

75% of selling price of an article is equal to 3 times is cost price. What is the profit Percentage?

Options :

1. ✗ 75 Percent
2. ✗ 150 Percent
3. ✗ 200 Percent
4. ✓ 300 Percent

Question Number : 98 Question Id : 5459276764 Question Type : MCQ Option Shuffling : Yes Display Question Number : Yes
Single Line Question Option : No Option Orientation : Vertical

Correct Marks : 1 Wrong Marks : 0.25

एक वस्तु के विक्रय मूल्य का 75% उसके क्रय मूल्य के 3 गुना के बराबर है लाभ प्रतिशत क्या है?

Options :

- ✘ 75 प्रतिशत
- ✘ 150 प्रतिशत
- ✘ 200 प्रतिशत
- ✔ 300 प्रतिशत

Question Number : 99 Question Id : 5459276765 Question Type : MCQ Option Shuffling : Yes Display Question Number : Yes Single Line Question Option : No Option Orientation : Vertical

Correct Marks : 1 Wrong Marks : 0.25

A earned 60% profit and B earned 40% profit. The value of their profit is equal. A calculated his profit on cost price. B calculated his profit on selling price. If the selling price of B is Rs 1500, then what is cost price of A?

Options :

- ✔ Rs 1000
- ✘ Rs 1200
- ✘ Rs 2000
- ✘ Rs 1500

Question Number : 99 Question Id : 5459276765 Question Type : MCQ Option Shuffling : Yes Display Question Number : Yes Single Line Question Option : No Option Orientation : Vertical

Correct Marks : 1 Wrong Marks : 0.25

A ने 60% लाभ कमाया तथा B ने 40% लाभ कमाया। उनके लाभ का मान समान है। A ने अपना लाभ क्रय मूल्य पर परिकलित किया है। B ने अपना लाभ विक्रय मूल्य पर परिकलित किया है। यदि B का विक्रय मूल्य 1500 रुपये है, तो, A का क्रय मूल्य क्या है?

Options :

- ✔ 1000 रुपये
- ✘ 1200 रुपये
- ✘ 2000 रुपये
- ✘ 1500 रुपये

Question Number : 100 Question Id : 5459276766 Question Type : MCQ Option Shuffling : Yes Display Question Number : Yes Single Line Question Option : No Option Orientation : Vertical

Correct Marks : 1 Wrong Marks : 0.25

The ratio of two numbers is 3 : 8 and their difference is 40. What is the value of smaller number?

Options :

- ✘ 20
- ✔ 24
- ✘ 28
- ✘ 36

Question Number : 100 Question Id : 5459276766 Question Type : MCQ Option Shuffling : Yes Display Question Number : Yes Single Line Question Option : No Option Orientation : Vertical

Correct Marks : 1 Wrong Marks : 0.25

दो संख्याओं का अनुपात 3 : 8 है तथा उनका अंतर 40 है। छोटी संख्या का मान क्या है?

Options :

- ✘ 20
- ✔ 24
- ✘ 28
- ✘ 36

Arithmetic Ability2

Group Number :	6
Group Id :	545927336
Group Maximum Duration :	0
Group Minimum Duration :	0
Revisit allowed for view? :	No
Revisit allowed for edit? :	No
Break time:	0
Group Marks:	20
Revisit allowed for group Instructions? :	Yes
Maximum Instruction Time:	0
Minimum Instruction Time:	0

Arithmetic Ability2

Section Id :	545927336
Section Number :	1
Section type :	Online
Mandatory or Optional:	Mandatory
Number of Questions:	20
Number of Questions to be attempted:	20
Section Marks:	20
Display Number Panel:	Yes
Group All Questions:	No

Sub-Section Number:	1
Sub-Section Id:	545927402
Question Shuffling Allowed :	Yes

Question Number : 101 Question Id : 5459276767 Question Type : MCQ Option Shuffling : Yes Display Question Number : Yes
Single Line Question Option : No Option Orientation : Vertical

Correct Marks : 1 Wrong Marks : 0.25

The ratio of present ages of Prem and Rohit is 3 : 4. After 6 years the ratio of their ages will be 4 : 5. What is the present age of Prem?

Options :

- ✓ 18 years
- ✗ 20 years
- ✗ 30 years
- ✗ 24 years

Question Number : 101 Question Id : 5459276767 Question Type : MCQ Option Shuffling : Yes Display Question Number : Yes
Single Line Question Option : No Option Orientation : Vertical

Correct Marks : 1 Wrong Marks : 0.25

प्रेम तथा रोहित की वर्तमान आयु का अनुपात 3 : 4 है। 6 वर्ष पश्चात उनकी आयु का अनुपात 4 : 5 हो जायेगा। प्रेम की वर्तमान आयु क्या है?

Options :

- ✓ 18 वर्ष
- ✗ 20 वर्ष

3. ✖ 30 वर्ष
4. ✖ 24 वर्ष

Question Number : 102 Question Id : 5459276768 Question Type : MCQ Option Shuffling : Yes Display Question Number : Yes Single Line Question Option : No Option Orientation : Vertical

Correct Marks : 1 Wrong Marks : 0.25

Rs 4500 was to be divided among P1, P2 and P3 in the ratio of 4 : 5 : 6. By mistake it was divided among P1, P2 and P3 in the ratio of 6 : 5 : 4. What amount P3 has lost in the division?

Options :

1. ✖ Rs 800
2. ✔ Rs 600
3. ✖ Rs 500
4. ✖ Rs 200

Question Number : 102 Question Id : 5459276768 Question Type : MCQ Option Shuffling : Yes Display Question Number : Yes Single Line Question Option : No Option Orientation : Vertical

Correct Marks : 1 Wrong Marks : 0.25

4500 रुपये को P1, P2 तथा P3 में 4 : 5 : 6 के अनुपात में बाँटा जाना था। परंतु गलती से P1, P2 तथा P3 में यह 6 : 5 : 4 के अनुपात में बाँट दिया गया। इस वितरण में, P3 को कितना धन कम प्राप्त हुआ है?

Options :

1. ✖ 800 रुपये
2. ✔ 600 रुपये
3. ✖ 500 रुपये
4. ✖ 200 रुपये

Question Number : 103 Question Id : 5459276769 Question Type : MCQ Option Shuffling : Yes Display Question Number : Yes Single Line Question Option : No Option Orientation : Vertical

Correct Marks : 1 Wrong Marks : 0.25

A sum of money becomes 7 times in 12 years when kept on simple interest. How many times will it become 28 years?

Options :

1. ✖ 16 times
2. ✖ 32 times
3. ✖ 30 times
4. ✔ 15 times

Question Number : 103 Question Id : 5459276769 Question Type : MCQ Option Shuffling : Yes Display Question Number : Yes Single Line Question Option : No Option Orientation : Vertical

Correct Marks : 1 Wrong Marks : 0.25

एक धनराशि साधारण ब्याज पर रखे जाने पर 12 वर्षों में 7 गुना हो जाएगी। 28 वर्ष में वह कितने गुना हो जाएगी?

Options :

1. ✖ 16 गुना
2. ✖ 32 गुना
3. ✖ 30 गुना
4. ✔ 15 गुना

Question Number : 104 Question Id : 5459276770 Question Type : MCQ Option Shuffling : Yes Display Question Number : Yes Single Line Question Option : No Option Orientation : Vertical

Correct Marks : 1 Wrong Marks : 0.25

Rs 25000 becomes Rs 31360 in t years, when kept at compound interest (compounding annually). If rate of interest is 12% per annum, then what is the value of t ?

Options :

- ✗ 5 years
- ✓ 2 years
- ✗ 3 years
- ✗ 4 years

Question Number : 104 Question Id : 5459276770 Question Type : MCQ Option Shuffling : Yes Display Question Number : Yes Single Line Question Option : No Option Orientation : Vertical

Correct Marks : 1 Wrong Marks : 0.25

जब 25000 रुपये चक्रवृद्धि ब्याज (वार्षिक संयोजन) पर रखे जाते हैं, तो वह t वर्षों में 31360 रुपये हो जाते हैं। यदि ब्याज की दर 12% प्रति वर्ष है, तो t का मान क्या है?

Options :

- ✗ 5 वर्ष
- ✓ 2 वर्ष
- ✗ 3 वर्ष
- ✗ 4 वर्ष

Question Number : 105 Question Id : 5459276771 Question Type : MCQ Option Shuffling : Yes Display Question Number : Yes Single Line Question Option : No Option Orientation : Vertical

Correct Marks : 1 Wrong Marks : 0.25

Compound interest on a certain sum of money for 2 years at a rate of $r\%$ per annum is Rs 3816. Simple interest on the same sum at the same rate for 2 years is Rs 3600. What is the value of the sum of money?

Options :

- ✗ Rs 14000
- ✗ Rs 12000
- ✓ Rs 15000
- ✗ Rs 16000

Question Number : 105 Question Id : 5459276771 Question Type : MCQ Option Shuffling : Yes Display Question Number : Yes Single Line Question Option : No Option Orientation : Vertical

Correct Marks : 1 Wrong Marks : 0.25

एक निश्चित धनराशि पर $r\%$ प्रति वर्ष की दर से 2 वर्ष का चक्रवृद्धि ब्याज 3816 रुपये है। उसी धनराशि पर उसी दर से 2 वर्ष का साधारण ब्याज 3600 रुपये है। धनराशि का मान क्या है?

Options :

- ✗ 14000 रुपये
- ✗ 12000 रुपये
- ✓ 15000 रुपये
- ✗ 16000 रुपये

Question Number : 106 Question Id : 5459276772 Question Type : MCQ Option Shuffling : Yes Display Question Number : Yes Single Line Question Option : No Option Orientation : Vertical

Correct Marks : 1 Wrong Marks : 0.25

The speed of a motorcycle is 63 km/hr. What will be the distance covered by the motorcycle in 14 seconds?

Options :

- ✗ 142 metres
- ✓ 245 metres
- ✗ 240 metres

4. ✘ 275 metres

Question Number : 106 Question Id : 5459276772 Question Type : MCQ Option Shuffling : Yes Display Question Number : Yes
Single Line Question Option : No Option Orientation : Vertical

Correct Marks : 1 Wrong Marks : 0.25

एक मोटरसाइकिल की गति 63 कि.मी./घंटा है। 14 सेकंड में मोटरसाइकिल द्वारा तय की गई दूरी क्या होगी?

Options :

1. ✘ 142 मीटर
2. ✔ 245 मीटर
3. ✘ 240 मीटर
4. ✘ 275 मीटर

Question Number : 107 Question Id : 5459276773 Question Type : MCQ Option Shuffling : Yes Display Question Number : Yes
Single Line Question Option : No Option Orientation : Vertical

Correct Marks : 1 Wrong Marks : 0.25

Speed of a train is 45 km/hr and it is 320 metres long. Speed of another train is 27 km/hr and it is 480 metres long. If they are travelling towards each other, then in how much time will they completely cross each other?

Options :

1. ✘ 38 seconds
2. ✘ 34 seconds
3. ✘ 50 seconds
4. ✔ 40 seconds

Question Number : 107 Question Id : 5459276773 Question Type : MCQ Option Shuffling : Yes Display Question Number : Yes
Single Line Question Option : No Option Orientation : Vertical

Correct Marks : 1 Wrong Marks : 0.25

एक रेलगाड़ी की गति 45 कि.मी./घंटा है तथा वह 320 मीटर लम्बी है। दूसरी रेलगाड़ी की गति 27 कि.मी./घंटा है तथा वह 480 मीटर लम्बी है। यदि वह विपरीत दिशा में चलती हैं, तो वह कितने समय में एक दूसरे को पूरा पार कर लेंगी?

Options :

1. ✘ 38 सेकण्ड
2. ✘ 34 सेकण्ड
3. ✘ 50 सेकण्ड
4. ✔ 40 सेकण्ड

Question Number : 108 Question Id : 5459276774 Question Type : MCQ Option Shuffling : Yes Display Question Number : Yes
Single Line Question Option : No Option Orientation : Vertical

Correct Marks : 1 Wrong Marks : 0.25

Vineet starts running from a point with a speed of 4 km/hr at 6:00 am. One hour later Suraj starts running in the same direction from the same point with speed of 8 km/hr. At what time of the day will Suraj be 6 km ahead of the Vineet?

Options :

1. ✔ 9:30 am
2. ✘ 9:20 am
3. ✘ 8:30 am
4. ✘ 8:20 am

Question Number : 108 Question Id : 5459276774 Question Type : MCQ Option Shuffling : Yes Display Question Number : Yes
Single Line Question Option : No Option Orientation : Vertical

Correct Marks : 1 Wrong Marks : 0.25

विनीत एक बिन्दु से प्रातः 6:00 बजे 4 कि.मी. /घण्टा की गति से दौड़ना आरंभ करता है। एक घण्टे पश्चात सूरज उसी दिशा में 8 कि.मी. /घण्टा की गति से दौड़ना आरंभ करता है। दिन के किस समय सूरज, विनीत से 6 कि.मी. आगे निकल जायेगा?

Options :

1. ✓ 9:30 प्रात
2. ✗ 9:20 प्रात
3. ✗ 8:30 प्रात
4. ✗ 8:20 प्रात

Question Number : 109 Question Id : 5459276775 Question Type : MCQ Option Shuffling : Yes Display Question Number : Yes Single Line Question Option : No Option Orientation : Vertical

Correct Marks : 1 Wrong Marks : 0.25

Two pipes P and Q can fill a cistern in 20 hours and 25 hours respectively. If both the pipes are opened together, then after what time pipe Q must be turned off so that the cistern is filled in 12 hours?

Options :

1. ✓ 10 hours
2. ✗ 8 hours
3. ✗ 6 hours
4. ✗ 9 hours

Question Number : 109 Question Id : 5459276775 Question Type : MCQ Option Shuffling : Yes Display Question Number : Yes Single Line Question Option : No Option Orientation : Vertical

Correct Marks : 1 Wrong Marks : 0.25

दो पाइप P तथा Q एक टंकी को क्रमशः 20 घंटे तथा 25 घंटे में भर सकती है। यदि दोनों पाइप को एक साथ खोल दिया जाये, तो पाइप Q को कितने समय पश्चात बंद कर दिया जाये, ताकि टंकी 12 घंटे में भर जाये?

Options :

1. ✓ 10 घंटे
2. ✗ 8 घंटे
3. ✗ 6 घंटे
4. ✗ 9 घंटे

Question Number : 110 Question Id : 5459276776 Question Type : MCQ Option Shuffling : Yes Display Question Number : Yes Single Line Question Option : No Option Orientation : Vertical

Correct Marks : 1 Wrong Marks : 0.25

Ram alone can build a wall in 10 days. Shyam alone can build the same wall in 12 days. If they work together, then in how many days the wall can be built?

Options :

1. ✗ 30/11
2. ✗ 6
3. ✓ 60/11
4. ✗ 10

Question Number : 110 Question Id : 5459276776 Question Type : MCQ Option Shuffling : Yes Display Question Number : Yes Single Line Question Option : No Option Orientation : Vertical

Correct Marks : 1 Wrong Marks : 0.25

राम अकेला एक दीवार 10 दिन में बना सकता है। श्याम उसी दीवार को 12 दिन में बना सकता है। यदि वे एकसाथ कार्य करते हैं, तो दीवार कितने दिन में बन सकती है?

Options :

1. ✗ 30/11
2. ✗ 6

3. ✓ 60/11

4. ✗ 10

Question Number : 111 Question Id : 5459276777 Question Type : MCQ Option Shuffling : Yes Display Question Number : Yes Single Line Question Option : No Option Orientation : Vertical

Correct Marks : 1 Wrong Marks : 0.25

Raja and Ram working together can do a work in $4\frac{1}{2}$ hours. Ram and Mohan working together can do the same work in 3 hours. Raja and Mohan working together can do the same work in $2\frac{3}{4}$ hours. If all of them start the work together, then how much time will they take to finish the work?

Options :

1. ✗ $2\frac{1}{2}$ hours

2. ✓ 2 hours

3. ✗ 1 hour

4. ✗ $1\frac{1}{2}$ hours

Question Number : 111 Question Id : 5459276777 Question Type : MCQ Option Shuffling : Yes Display Question Number : Yes Single Line Question Option : No Option Orientation : Vertical

Correct Marks : 1 Wrong Marks : 0.25

राजा तथा राम साथ मिलकर एक कार्य को $4\frac{1}{2}$ घंटे में कर सकते हैं। राम तथा मोहन साथ मिलकर उसी कार्य को 3 घंटे में कर सकते हैं। राजा तथा मोहन साथ मिलकर उसी कार्य को $2\frac{3}{4}$ घंटे में कर सकते हैं। यदि वे सभी कार्य को एक साथ आरंभ करते हैं, तो कार्य को पूरा करने में कितना समय लेंगे?

Options :

1. ✗ $2\frac{1}{2}$ घंटे

2. ✓ 2 घंटे

3. ✗ 1 घंटा

4. ✗ $1\frac{1}{2}$ घंटे

Question Number : 112 Question Id : 5459276778 Question Type : MCQ Option Shuffling : Yes Display Question Number : Yes Single Line Question Option : No Option Orientation : Vertical

Correct Marks : 1 Wrong Marks : 0.25

If the area of a circle inscribed in a square is 36π cm², then what will be the perimeter of the square?

Options :

1. ✗ 36 cm

2. ✓ 48 cm

3. ✗ 40 cm

4. ✗ 64 cm

Question Number : 112 Question Id : 5459276778 Question Type : MCQ Option Shuffling : Yes Display Question Number : Yes Single Line Question Option : No Option Orientation : Vertical

Correct Marks : 1 Wrong Marks : 0.25

यदि किसी वर्ग के भीतर खींचे गए वृत्त का क्षेत्रफल

36π से.मी.² है, तो वर्ग का परिमाण क्या होगा?

Options :

1. ✗ 36 से.मी.

2. ✓ 48 से.मी.

3. ✗ 40 से.मी.

4. ✗ 64 से.मी.

Question Number : 113 Question Id : 5459276779 Question Type : MCQ Option Shuffling : Yes Display Question Number : Yes
Single Line Question Option : No Option Orientation : Vertical

Correct Marks : 1 Wrong Marks : 0.25

यदि दो सिलिंडरों की ऊंचाई 5 : 2 के अनुपात में है और उनकी त्रिज्या 2 : 3 के अनुपात में है, तो सिलिंडर के वॉल्यूम का अनुपात क्या है?

Options :

1. ✘ 8 : 9
2. ✘ 20 : 9
3. ✔ 10 : 9
4. ✘ 5 : 3

Question Number : 113 Question Id : 5459276779 Question Type : MCQ Option Shuffling : Yes Display Question Number : Yes
Single Line Question Option : No Option Orientation : Vertical

Correct Marks : 1 Wrong Marks : 0.25

If the height of two cylinders are in the ratio 5 : 2 and their radius are in the ratio of 2 : 3, then what is the ratio of the volumes of the cylinders?

Options :

1. ✘ 8 : 9
2. ✘ 20 : 9
3. ✔ 10 : 9
4. ✘ 5 : 3

Question Number : 114 Question Id : 5459276780 Question Type : MCQ Option Shuffling : Yes Display Question Number : Yes
Single Line Question Option : No Option Orientation : Vertical

Correct Marks : 1 Wrong Marks : 0.25

If the radius of a circle is increased by n , then the area of the circle becomes double. What is the value radius?

Options :

1. ✘ $\frac{\sqrt{2}n}{n-1}$
2. ✘ $\frac{\sqrt{2}n}{\sqrt{2}-1}$
3. ✔ $\frac{n}{\sqrt{2}-1}$
4. ✘ $\frac{n}{\sqrt{2}+1}$

Question Number : 114 Question Id : 5459276780 Question Type : MCQ Option Shuffling : Yes Display Question Number : Yes
Single Line Question Option : No Option Orientation : Vertical

Correct Marks : 1 Wrong Marks : 0.25

यदि एक वृत्त की त्रिज्या को n से बढ़ाया जाता है, तो वृत्त का क्षेत्रफल दोगुना हो जाता है त्रिज्या का मान क्या है?

Options :

1. ✘ $\frac{\sqrt{2n}}{n-1}$

2. ✘ $\frac{\sqrt{2n}}{\sqrt{2}-1}$

3. ✔ $\frac{n}{\sqrt{2}-1}$

4. ✘ $\frac{n}{\sqrt{2}+1}$

Question Number : 115 Question Id : 5459276781 Question Type : MCQ Option Shuffling : Yes Display Question Number : Yes Single Line Question Option : No Option Orientation : Vertical

Correct Marks : 1 Wrong Marks : 0.25

The table given below shows the number of flats in different colonies in a city.

Colony	Number of flats
C1	50
C2	59
C3	63
C4	71
C5	81
C6	97
C7	104

What are the average number of flats per colony?

Options :

1. ✘ 71

2. ✔ 75

3. ✘ 79

4. ✘ 83

Question Number : 115 Question Id : 5459276781 Question Type : MCQ Option Shuffling : Yes Display Question Number : Yes Single Line Question Option : No Option Orientation : Vertical

Correct Marks : 1 Wrong Marks : 0.25

नीचे दी गई तालिका एक शहर में विभिन्न कॉलोनियों में फ्लैटों की संख्या को दर्शाता है।

कॉलोनी	फ्लैटों की संख्या
C1	50
C2	59
C3	63
C4	71
C5	81
C6	97
C7	104

प्रति कॉलोनी फ्लैटों की औसत संख्या क्या है?

Options :

- ✘ 71
- ✔ 75
- ✘ 79
- ✘ 83

Question Number : 116 Question Id : 5459276782 Question Type : MCQ Option Shuffling : Yes Display Question Number : Yes Single Line Question Option : No Option Orientation : Vertical

Correct Marks : 1 Wrong Marks : 0.25

The table given below shows the number of dishes prepared in a mess on different days of a week.

Day	Number of Dishes
D1	10
D2	11
D3	17
D4	21
D5	12
D6	18

The number of dishes prepared on day D6 is what Percentage less than the total number of dishes prepared on day D1 and D3?

Options :

- ✔ 33.33 Percent
- ✘ 43.33 Percent
- ✘ 53.33 Percent
- ✘ 63.33 Percent

Question Number : 116 Question Id : 5459276782 Question Type : MCQ Option Shuffling : Yes Display Question Number : Yes Single Line Question Option : No Option Orientation : Vertical

Correct Marks : 1 Wrong Marks : 0.25

नीचे दी गयी तालिका एक हफ्ते के विभिन्न दिनों पर एक मेस में बनायी गयी डिशों की संख्या को दर्शाती है।

दिन	डिशों की संख्या
D1	10
D2	11
D3	17
D4	21
D5	12
D6	18

दिन D6 पर बनायी गयी डिशों की संख्या दिन D1 तथा D3 पर बनायी गयी डिशों की कुल संख्या से कितनी प्रतिशत कम है?

Options :

- ✓ 33.33 प्रतिशत
- ✗ 43.33 प्रतिशत
- ✗ 53.33 प्रतिशत
- ✗ 63.33 प्रतिशत

Question Number : 117 Question Id : 5459276783 Question Type : MCQ Option Shuffling : Yes Display Question Number : Yes Single Line Question Option : No Option Orientation : Vertical

Correct Marks : 1 Wrong Marks : 0.25

The pie chart given below shows the number of refrigerator repaired by mechanic on different days of a week. The number of refrigerator prepared on a particular day are shown as the Percentage of total number of refrigerator repaired by the mechanic.



What is the central angle formed by the sector for day D2?

Options :

- ✗ 92.4°
- ✗ 102.4°
- ✗ 112.4°
- ✓ 122.4°

Question Number : 117 Question Id : 5459276783 Question Type : MCQ Option Shuffling : Yes Display Question Number : Yes Single Line Question Option : No Option Orientation : Vertical

Correct Marks : 1 Wrong Marks : 0.25

नीचे दिया गया वृत्त चित्र एक हफ्ते के विभिन्न दिनों पर मैकेनिक द्वारा मरम्मत किए गए रेफ्रिजरेटर की संख्या को दर्शाता है। एक विशिष्ट दिन पर मरम्मत किए गए रेफ्रिजरेटरों की संख्या को मैकेनिक द्वारा मरम्मत किए गए रेफ्रिजरेटरों की कुल संख्या को प्रतिशत के रूप में दर्शाया गया है।



दिन D2 के खण्ड द्वारा बनाया गया केंद्रीय कोण क्या है?


Options :

1. ✘ 92.4°
2. ✘ 102.4°
3. ✘ 112.4°
4. ✔ 122.4°

Question Number : 118 Question Id : 5459276784 Question Type : MCQ Option Shuffling : Yes Display Question Number : Yes Single Line Question Option : No Option Orientation : Vertical

Correct Marks : 1 Wrong Marks : 0.25

नीचे दिया गया रेखा चित्र एक वर्ष के विभिन्न महीनों में एक कंपनी द्वारा निर्मित बेल्टों की संख्या को दर्शाता है।



महीना M1 से M7 तक निर्मित बेल्टों की संख्या में कितने प्रतिशत वृद्धि हुई है?

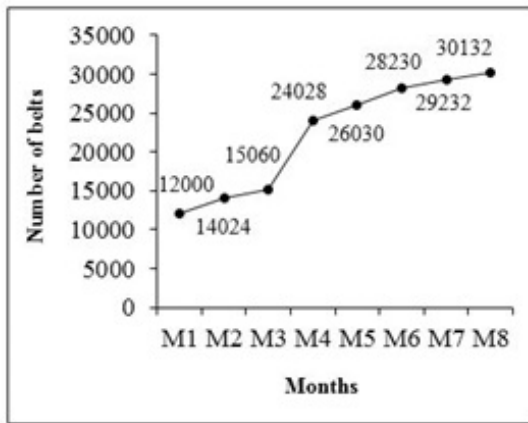
Options :

1. ✘ 113.6 प्रतिशत
2. ✘ 123.6 प्रतिशत
3. ✘ 133.6 प्रतिशत
4. ✔ 143.6 प्रतिशत

Question Number : 118 Question Id : 5459276784 Question Type : MCQ Option Shuffling : Yes Display Question Number : Yes Single Line Question Option : No Option Orientation : Vertical

Correct Marks : 1 Wrong Marks : 0.25

The line graph given below shows the number of belts manufactured by a company in different months of a year.



What is the Percentage increase in number of belts manufactured from month M1 to month M7?

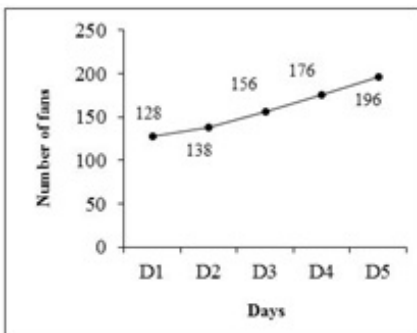
Options :

- ✘ 113.6 Percent
- ✘ 123.6 Percent
- ✘ 133.6 Percent
- ✔ 143.6 Percent

Question Number : 119 Question Id : 5459276785 Question Type : MCQ Option Shuffling : Yes Display Question Number : Yes Single Line Question Option : No Option Orientation : Vertical

Correct Marks : 1 Wrong Marks : 0.25

The line graph given below shows the number of fans sold by a vendor on different days of a week.



What are the total number of fans sold by the vendor on all days together?

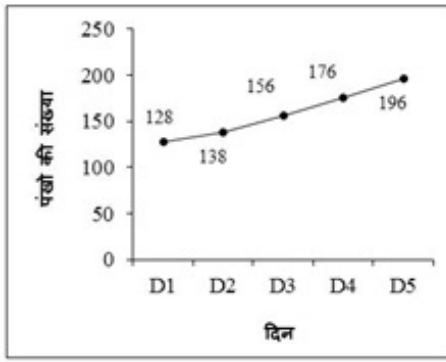
Options :

- ✔ 794
- ✘ 804
- ✘ 784
- ✘ 774

Question Number : 119 Question Id : 5459276785 Question Type : MCQ Option Shuffling : Yes Display Question Number : Yes Single Line Question Option : No Option Orientation : Vertical

Correct Marks : 1 Wrong Marks : 0.25

नीचे दिया गया रेखा चित्र एक हफ्ते के विभिन्न दिनों पर एक वेंडर द्वारा बेचे गए पंखों की संख्या को दर्शाता है।



सभी दिनों पर मिलाकर वेंडर द्वारा बेचे गये पंखों की कुल संख्या क्या है?

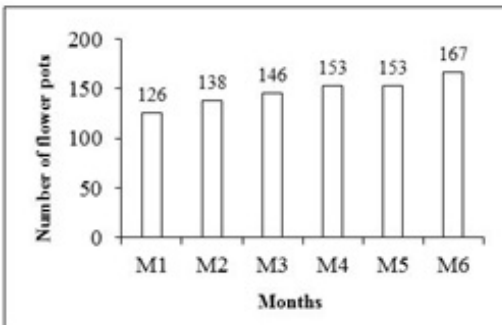
Options :

- ✓ 794
- ✗ 804
- ✗ 784
- ✗ 774

Question Number : 120 Question Id : 5459276786 Question Type : MCQ Option Shuffling : Yes Display Question Number : Yes Single Line Question Option : No Option Orientation : Vertical

Correct Marks : 1 Wrong Marks : 0.25

The bar graph given below shows the number of flower pot sold by a vendor in different months.



What is the number of flower pot sold in M6 are what Percentage more than the number of flower pot sold in M1?

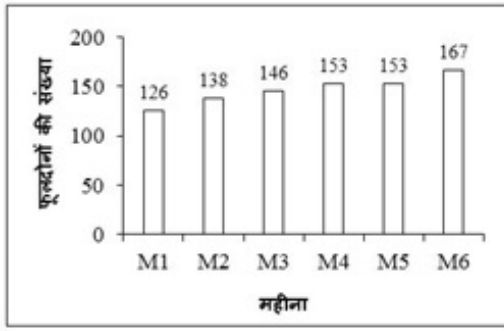
Options :

- ✗ 20.53 Percent
- ✗ 24.53 Percent
- ✗ 28.53 Percent
- ✓ 32.53 Percent

Question Number : 120 Question Id : 5459276786 Question Type : MCQ Option Shuffling : Yes Display Question Number : Yes Single Line Question Option : No Option Orientation : Vertical

Correct Marks : 1 Wrong Marks : 0.25

नीचे दिया गया दण्ड चित्र विभिन्न महीनों में एक वेंडर द्वारा बेचे गये फूलदान की संख्या को दर्शाता है।



M6 में बेचे गए फूलदान की संख्या, M1 में बेचे गए फूलदान की संख्या से कितनी प्रतिशत अधिक है?

Options :

- ✘ 20.53 प्रतिशत
- ✘ 24.53 प्रतिशत
- ✘ 28.53 प्रतिशत
- ✔ 32.53 प्रतिशत

General English1

Group Number :	7
Group Id :	545927337
Group Maximum Duration :	0
Group Minimum Duration :	0
Revisit allowed for view? :	No
Revisit allowed for edit? :	No
Break time:	0
Group Marks:	20
Revisit allowed for group Instructions? :	Yes
Maximum Instruction Time:	0
Minimum Instruction Time:	0

General English1

Section Id :	545927337
Section Number :	1
Section type :	Online
Mandatory or Optional:	Mandatory
Number of Questions:	20
Number of Questions to be attempted:	20
Section Marks:	20
Display Number Panel:	Yes
Group All Questions:	No

Sub-Section Number:	1
Sub-Section Id:	545927403
Question Shuffling Allowed :	Yes

Question Number : 121 Question Id : 5459276787 Question Type : MCQ Option Shuffling : Yes Display Question Number : Yes
Single Line Question Option : No Option Orientation : Vertical

Correct Marks : 1 Wrong Marks : 0.25

Find the part of the given sentence that has an error in it. If there is no error, choose 'No error'.

The children (1) / were crying (2) / so they were hungry. (3) / No error (4)

Options :

1. ✘ 1

2. ✘ 2

3. ✔ 3

4. ✘ 4

Question Number : 121 Question Id : 5459276787 Question Type : MCQ Option Shuffling : Yes Display Question Number : Yes
Single Line Question Option : No Option Orientation : Vertical

Correct Marks : 1 Wrong Marks : 0.25

Find the part of the given sentence that has an error in it. If there is no error, choose 'No error'.

The children (1) / were crying (2) / so they were hungry. (3) / No error (4)

Options :

1. ✘ 1

2. ✘ 2

3. ✔ 3

4. ✘ 4

Question Number : 122 Question Id : 5459276788 Question Type : MCQ Option Shuffling : Yes Display Question Number : Yes
Single Line Question Option : No Option Orientation : Vertical

Correct Marks : 1 Wrong Marks : 0.25

Find the part of the given sentence that has an error in it. If there is no error, choose 'No error'.

They have (1) / tell us that (2) /the film wasn't good. (3) / No error (4)

Options :

1. ✘ 1

2. ✔ 2

3. ✘ 3

4. ✘ 4

Question Number : 122 Question Id : 5459276788 Question Type : MCQ Option Shuffling : Yes Display Question Number : Yes
Single Line Question Option : No Option Orientation : Vertical

Correct Marks : 1 Wrong Marks : 0.25

Find the part of the given sentence that has an error in it. If there is no error, choose 'No error'.

They have (1) / tell us that (2) /the film wasn't good. (3) / No error (4)

Options :

1. ✘ 1

2. ✔ 2

3. ✘ 3

4. ✘ 4

Question Number : 123 Question Id : 5459276789 Question Type : MCQ Option Shuffling : Yes Display Question Number : Yes
Single Line Question Option : No Option Orientation : Vertical

Correct Marks : 1 Wrong Marks : 0.25

Find the part of the given sentence that has an error in it. If there is no error, choose 'No error'.

He succeeded (1) / because he (2) / worked hard. (3) / No error (4)

Options :

1. ✘ 1
2. ✘ 2
3. ✘ 3
4. ✔ 4

Question Number : 123 Question Id : 5459276789 Question Type : MCQ Option Shuffling : Yes Display Question Number : Yes
Single Line Question Option : No Option Orientation : Vertical

Correct Marks : 1 Wrong Marks : 0.25

Find the part of the given sentence that has an error in it. If there is no error, choose 'No error'.

He succeeded (1) / because he (2) / worked hard. (3) / No error (4)

Options :

1. ✘ 1
2. ✘ 2
3. ✘ 3
4. ✔ 4

Question Number : 124 Question Id : 5459276790 Question Type : MCQ Option Shuffling : Yes Display Question Number : Yes
Single Line Question Option : No Option Orientation : Vertical

Correct Marks : 1 Wrong Marks : 0.25

Find the part of the given sentence that has an error in it. If there is no error, choose 'No error'.

I would do (1) / this if I (2) / was allowed. (3) / No error (4)

Options :

1. ✘ 1
2. ✘ 2
3. ✔ 3
4. ✘ 4

Question Number : 124 Question Id : 5459276790 Question Type : MCQ Option Shuffling : Yes Display Question Number : Yes
Single Line Question Option : No Option Orientation : Vertical

Correct Marks : 1 Wrong Marks : 0.25

Find the part of the given sentence that has an error in it. If there is no error, choose 'No error'.

I would do (1) / this if I (2) / was allowed. (3) / No error (4)

Options :

1. ✘ 1
2. ✘ 2
3. ✔ 3
4. ✘ 4

Question Number : 125 Question Id : 5459276791 Question Type : MCQ Option Shuffling : Yes Display Question Number : Yes
Single Line Question Option : No Option Orientation : Vertical

Correct Marks : 1 Wrong Marks : 0.25

Find the part of the given sentence that has an error in it. If there is no error, choose 'No error'.

I have find (1) / the pen that (2) I had lost. (3) / No error (4)

Options :

1. ✓ 1
2. ✗ 2
3. ✗ 3
4. ✗ 4

Question Number : 125 Question Id : 5459276791 Question Type : MCQ Option Shuffling : Yes Display Question Number : Yes
Single Line Question Option : No Option Orientation : Vertical

Correct Marks : 1 Wrong Marks : 0.25

Find the part of the given sentence that has an error in it. If there is no error, choose 'No error'.

I have find (1) / the pen that (2) I had lost. (3) / No error (4)

Options :

1. ✓ 1
2. ✗ 2
3. ✗ 3
4. ✗ 4

Question Number : 126 Question Id : 5459276792 Question Type : MCQ Option Shuffling : Yes Display Question Number : Yes
Single Line Question Option : No Option Orientation : Vertical

Correct Marks : 1 Wrong Marks : 0.25

Improve the bracketed part of the sentence.

They will arrive (today night).

Options :

1. ✗ at night today
2. ✓ tonight
3. ✗ at night
4. ✗ No Improvement

Question Number : 126 Question Id : 5459276792 Question Type : MCQ Option Shuffling : Yes Display Question Number : Yes
Single Line Question Option : No Option Orientation : Vertical

Correct Marks : 1 Wrong Marks : 0.25

Improve the bracketed part of the sentence.

They will arrive (today night).

Options :

1. ✗ at night today
2. ✓ tonight
3. ✗ at night
4. ✗ No Improvement

Question Number : 127 Question Id : 5459276793 Question Type : MCQ Option Shuffling : Yes Display Question Number : Yes
Single Line Question Option : No Option Orientation : Vertical

Correct Marks : 1 Wrong Marks : 0.25

Improve the bracketed part of the sentence.

She is (happiest of) all.

Options :

1. ✓ the happiest of

2. ✘ more happier than
3. ✘ most happiest of
4. ✘ No Improvement

Question Number : 127 Question Id : 5459276793 Question Type : MCQ Option Shuffling : Yes Display Question Number : Yes
Single Line Question Option : No Option Orientation : Vertical

Correct Marks : 1 Wrong Marks : 0.25

Improve the bracketed part of the sentence.

She is (happiest of) all.

Options :

1. ✔ the happiest of
2. ✘ more happier than
3. ✘ most happiest of
4. ✘ No Improvement

Question Number : 128 Question Id : 5459276794 Question Type : MCQ Option Shuffling : Yes Display Question Number : Yes
Single Line Question Option : No Option Orientation : Vertical

Correct Marks : 1 Wrong Marks : 0.25

Improve the bracketed part of the sentence.

The advancements in medical science (has proved) to be a boon for all of us.

Options :

1. ✘ has proven
2. ✘ had proven
3. ✔ have proved
4. ✘ No Improvement

Question Number : 128 Question Id : 5459276794 Question Type : MCQ Option Shuffling : Yes Display Question Number : Yes
Single Line Question Option : No Option Orientation : Vertical

Correct Marks : 1 Wrong Marks : 0.25

Improve the bracketed part of the sentence.

The advancements in medical science (has proved) to be a boon for all of us.

Options :

1. ✘ has proven
2. ✘ had proven
3. ✔ have proved
4. ✘ No Improvement

Question Number : 129 Question Id : 5459276795 Question Type : MCQ Option Shuffling : Yes Display Question Number : Yes
Single Line Question Option : No Option Orientation : Vertical

Correct Marks : 1 Wrong Marks : 0.25

Improve the bracketed part of the sentence.

Educational facilities in underdeveloped nations are often (limiting).

Options :

1. ✔ limited
2. ✘ limitless
3. ✘ limit

4. ✘ No Improvement

Question Number : 129 Question Id : 5459276795 Question Type : MCQ Option Shuffling : Yes Display Question Number : Yes
Single Line Question Option : No Option Orientation : Vertical

Correct Marks : 1 Wrong Marks : 0.25

Improve the bracketed part of the sentence.

Educational facilities in underdeveloped nations are often (limiting).

Options :

1. ✔ limited
2. ✘ limitless
3. ✘ limit
4. ✘ No Improvement

Question Number : 130 Question Id : 5459276796 Question Type : MCQ Option Shuffling : Yes Display Question Number : Yes
Single Line Question Option : No Option Orientation : Vertical

Correct Marks : 1 Wrong Marks : 0.25

Improve the bracketed part of the sentence.

Try to understand the motive of your opponents (after) you take any step against them.

Options :

1. ✔ before
2. ✘ unless
3. ✘ on
4. ✘ No Improvement

Question Number : 130 Question Id : 5459276796 Question Type : MCQ Option Shuffling : Yes Display Question Number : Yes
Single Line Question Option : No Option Orientation : Vertical

Correct Marks : 1 Wrong Marks : 0.25

Improve the bracketed part of the sentence.

Try to understand the motive of your opponents (after) you take any step against them.

Options :

1. ✔ before
2. ✘ unless
3. ✘ on
4. ✘ No Improvement

Question Number : 131 Question Id : 5459276797 Question Type : MCQ Option Shuffling : Yes Display Question Number : Yes
Single Line Question Option : No Option Orientation : Vertical

Correct Marks : 1 Wrong Marks : 0.25

A sentence has been given with a blank to be filled with an appropriate word. Choose the correct alternative.

Do not talk _____ nonsense.

Options :

1. ✘ less
2. ✔ such
3. ✘ no
4. ✘ much

Question Number : 131 Question Id : 5459276797 Question Type : MCQ Option Shuffling : Yes Display Question Number : Yes
Single Line Question Option : No Option Orientation : Vertical

Correct Marks : 1 Wrong Marks : 0.25

A sentence has been given with a blank to be filled with an appropriate word. Choose the correct alternative.

Do not talk _____ nonsense.

Options :

1. ✘ less
2. ✔ such
3. ✘ no
4. ✘ much

Question Number : 132 Question Id : 5459276798 Question Type : MCQ Option Shuffling : Yes Display Question Number : Yes
Single Line Question Option : No Option Orientation : Vertical

Correct Marks : 1 Wrong Marks : 0.25

A sentence has been given with a blank to be filled with an appropriate word. Choose the correct alternative.

I have _____ things to attend to.

Options :

1. ✔ other
2. ✘ up
3. ✘ to
4. ✘ of

Question Number : 132 Question Id : 5459276798 Question Type : MCQ Option Shuffling : Yes Display Question Number : Yes
Single Line Question Option : No Option Orientation : Vertical

Correct Marks : 1 Wrong Marks : 0.25

A sentence has been given with a blank to be filled with an appropriate word. Choose the correct alternative.

I have _____ things to attend to.

Options :

1. ✔ other
2. ✘ up
3. ✘ to
4. ✘ of

Question Number : 133 Question Id : 5459276799 Question Type : MCQ Option Shuffling : Yes Display Question Number : Yes
Single Line Question Option : No Option Orientation : Vertical

Correct Marks : 1 Wrong Marks : 0.25

A sentence has been given with a blank to be filled with an appropriate word. Choose the correct alternative.

Jawaharlal Nehru was fond _____ children.

Options :

1. ✘ from
2. ✘ up
3. ✔ of
4. ✘ in

Question Number : 133 Question Id : 5459276799 Question Type : MCQ Option Shuffling : Yes Display Question Number : Yes
Single Line Question Option : No Option Orientation : Vertical

Correct Marks : 1 Wrong Marks : 0.25

A sentence has been given with a blank to be filled with an appropriate word. Choose the correct alternative.

Jawaharlal Nehru was fond _____ children.

Options :

1. ✘ from
2. ✘ up
3. ✔ of
4. ✘ in

Question Number : 134 Question Id : 5459276800 Question Type : MCQ Option Shuffling : Yes Display Question Number : Yes
Single Line Question Option : No Option Orientation : Vertical

Correct Marks : 1 Wrong Marks : 0.25

A sentence has been given with a blank to be filled with an appropriate word. Choose the correct alternative.

Mumbai is famous for _____ textiles.

Options :

1. ✘ his
2. ✘ her
3. ✘ their
4. ✔ its

Question Number : 134 Question Id : 5459276800 Question Type : MCQ Option Shuffling : Yes Display Question Number : Yes
Single Line Question Option : No Option Orientation : Vertical

Correct Marks : 1 Wrong Marks : 0.25

A sentence has been given with a blank to be filled with an appropriate word. Choose the correct alternative.

Mumbai is famous for _____ textiles.

Options :

1. ✘ his
2. ✘ her
3. ✘ their
4. ✔ its

Question Number : 135 Question Id : 5459276801 Question Type : MCQ Option Shuffling : Yes Display Question Number : Yes
Single Line Question Option : No Option Orientation : Vertical

Correct Marks : 1 Wrong Marks : 0.25

A sentence has been given with a blank to be filled with an appropriate word. Choose the correct alternative.

There is still no cure _____ the common cold.

Options :

1. ✔ for
2. ✘ in
3. ✘ on
4. ✘ with

Question Number : 135 Question Id : 5459276801 Question Type : MCQ Option Shuffling : Yes Display Question Number : Yes
Single Line Question Option : No Option Orientation : Vertical

Correct Marks : 1 Wrong Marks : 0.25

A sentence has been given with a blank to be filled with an appropriate word. Choose the correct alternative.

There is still no cure _____ the common cold.

Options :

1. ✓ for
2. ✗ in
3. ✗ on
4. ✗ with

Question Number : 136 Question Id : 5459276802 Question Type : MCQ Option Shuffling : Yes Display Question Number : Yes
Single Line Question Option : No Option Orientation : Vertical

Correct Marks : 1 Wrong Marks : 0.25

A sentence has been given with a blank to be filled with an appropriate word. Choose the correct alternative.

She spoke earnestly _____ the meeting last night.

Options :

1. ✗ to
2. ✓ at
3. ✗ of
4. ✗ by

Question Number : 136 Question Id : 5459276802 Question Type : MCQ Option Shuffling : Yes Display Question Number : Yes
Single Line Question Option : No Option Orientation : Vertical

Correct Marks : 1 Wrong Marks : 0.25

A sentence has been given with a blank to be filled with an appropriate word. Choose the correct alternative.

She spoke earnestly _____ the meeting last night.

Options :

1. ✗ to
2. ✓ at
3. ✗ of
4. ✗ by

Question Number : 137 Question Id : 5459276803 Question Type : MCQ Option Shuffling : Yes Display Question Number : Yes
Single Line Question Option : No Option Orientation : Vertical

Correct Marks : 1 Wrong Marks : 0.25

A sentence has been given with a blank to be filled with an appropriate word. Choose the correct alternative.

He said I _____ use his phone at any time.

Options :

1. ✗ shall
2. ✗ might
3. ✗ should
4. ✓ can

Question Number : 137 Question Id : 5459276803 Question Type : MCQ Option Shuffling : Yes Display Question Number : Yes
Single Line Question Option : No Option Orientation : Vertical

Correct Marks : 1 Wrong Marks : 0.25

A sentence has been given with a blank to be filled with an appropriate word. Choose the correct alternative.

He said I _____ use his phone at any time.

Options :

1. ✗ shall

2. ✘ might
3. ✘ should
4. ✔ can

Question Number : 138 Question Id : 5459276804 Question Type : MCQ Option Shuffling : Yes Display Question Number : Yes
Single Line Question Option : No Option Orientation : Vertical

Correct Marks : 1 Wrong Marks : 0.25

A sentence has been given with a blank to be filled with an appropriate word. Choose the correct alternative.

She _____ to play cricket before marriage.

Options :

1. ✘ use
2. ✘ is use
3. ✔ used
4. ✘ was use

Question Number : 138 Question Id : 5459276804 Question Type : MCQ Option Shuffling : Yes Display Question Number : Yes
Single Line Question Option : No Option Orientation : Vertical

Correct Marks : 1 Wrong Marks : 0.25

A sentence has been given with a blank to be filled with an appropriate word. Choose the correct alternative.

She _____ to play cricket before marriage.

Options :

1. ✘ use
2. ✘ is use
3. ✔ used
4. ✘ was use

Question Number : 139 Question Id : 5459276805 Question Type : MCQ Option Shuffling : Yes Display Question Number : Yes
Single Line Question Option : No Option Orientation : Vertical

Correct Marks : 1 Wrong Marks : 0.25

The question below consists of a set of labeled sentences. Out of the four options given, select the most logical order of the sentences to form a coherent paragraph.

P: regular pattern and consistent

Q: of man's character

R: there is always a

S: growth in the formation

Options :

1. ✔ RPSQ
2. ✘ PQRS
3. ✘ RQSP
4. ✘ RSQP

Question Number : 139 Question Id : 5459276805 Question Type : MCQ Option Shuffling : Yes Display Question Number : Yes
Single Line Question Option : No Option Orientation : Vertical

Correct Marks : 1 Wrong Marks : 0.25

The question below consists of a set of labeled sentences. Out of the four options given, select the most logical order of the sentences to form a coherent paragraph.

P: regular pattern and consistent
Q: of man's character
R: there is always a
S: growth in the formation

Options :

1. ✓ RPSQ
2. ✗ PQRS
3. ✗ RQSP
4. ✗ RSQP

Question Number : 140 Question Id : 5459276806 Question Type : MCQ Option Shuffling : Yes Display Question Number : Yes
Single Line Question Option : No Option Orientation : Vertical

Correct Marks : 1 Wrong Marks : 0.25

The question below consists of a set of labeled sentences. Out of the four options given, select the most logical order of the sentences to form a coherent paragraph.

P: would do better than valour
Q: patience and forbearance
R: situations in which
S: there are certain

Options :

1. ✗ PQRS
2. ✗ SQRP
3. ✓ SRQP
4. ✗ SPRQ

Question Number : 140 Question Id : 5459276806 Question Type : MCQ Option Shuffling : Yes Display Question Number : Yes
Single Line Question Option : No Option Orientation : Vertical

Correct Marks : 1 Wrong Marks : 0.25

The question below consists of a set of labeled sentences. Out of the four options given, select the most logical order of the sentences to form a coherent paragraph.

P: would do better than valour
Q: patience and forbearance
R: situations in which
S: there are certain

Options :

1. ✗ PQRS
2. ✗ SQRP
3. ✓ SRQP
4. ✗ SPRQ

General English2

Group Number :	8
Group Id :	545927338
Group Maximum Duration :	0
Group Minimum Duration :	0
Revisit allowed for view? :	No

Revisit allowed for edit? :	No
Break time:	0
Group Marks:	20
Revisit allowed for group Instructions? :	Yes
Maximum Instruction Time:	0
Minimum Instruction Time:	0

General English2

Section Id :	545927338
Section Number :	1
Section type :	Online
Mandatory or Optional:	Mandatory
Number of Questions:	16
Number of Questions to be attempted:	16
Section Marks:	20
Display Number Panel:	Yes
Group All Questions:	No

Sub-Section Number:	1
Sub-Section Id:	545927404
Question Shuffling Allowed :	Yes

Question Number : 141 Question Id : 5459276807 Question Type : MCQ Option Shuffling : Yes Display Question Number : Yes Single Line Question Option : No Option Orientation : Vertical

Correct Marks : 1 Wrong Marks : 0.25

The question below consists of a set of labeled sentences. Out of the four options given, select the most logical order of the sentences to form a coherent paragraph.

- P: it is often believed that man is a toy in the hands of the destiny.
 Q: this is a very fatalistic and pessimistic approach in life.
 R: our destiny is marked out for us at the time of our birth.
 S: man has no role to play in the determination of his fate or destiny.

Options :

1. ✓ PRSQ
2. ✗ PQRS
3. ✗ SRQP
4. ✗ RSQP

Question Number : 141 Question Id : 5459276807 Question Type : MCQ Option Shuffling : Yes Display Question Number : Yes Single Line Question Option : No Option Orientation : Vertical

Correct Marks : 1 Wrong Marks : 0.25

The question below consists of a set of labeled sentences. Out of the four options given, select the most logical order of the sentences to form a coherent paragraph.

- P: it is often believed that man is a toy in the hands of the destiny.
 Q: this is a very fatalistic and pessimistic approach in life.
 R: our destiny is marked out for us at the time of our birth.
 S: man has no role to play in the determination of his fate or destiny.

Options :

1. ✓ PRSQ
2. ✗ PQRS

3. ✘ SRQP
4. ✘ RSQP

Question Number : 142 Question Id : 5459276808 Question Type : MCQ Option Shuffling : Yes Display Question Number : Yes
Single Line Question Option : No Option Orientation : Vertical

Correct Marks : 1 Wrong Marks : 0.25

Choose the word that is opposite in meaning to the given word.

Cautious

Options :

1. ✘ Deceptive
2. ✔ Careless
3. ✘ Continuous
4. ✘ Adjustable

Question Number : 142 Question Id : 5459276808 Question Type : MCQ Option Shuffling : Yes Display Question Number : Yes
Single Line Question Option : No Option Orientation : Vertical

Correct Marks : 1 Wrong Marks : 0.25

Choose the word that is opposite in meaning to the given word.

Cautious

Options :

1. ✘ Deceptive
2. ✔ Careless
3. ✘ Continuous
4. ✘ Adjustable

Question Number : 143 Question Id : 5459276809 Question Type : MCQ Option Shuffling : Yes Display Question Number : Yes
Single Line Question Option : No Option Orientation : Vertical

Correct Marks : 1 Wrong Marks : 0.25

Choose the word that means the same as the given word.

Depress

Options :

1. ✔ Melancholy
2. ✘ Cheerful
3. ✘ Happy
4. ✘ Sweet

Question Number : 143 Question Id : 5459276809 Question Type : MCQ Option Shuffling : Yes Display Question Number : Yes
Single Line Question Option : No Option Orientation : Vertical

Correct Marks : 1 Wrong Marks : 0.25

Choose the word that means the same as the given word.

Depress

Options :

1. ✔ Melancholy
2. ✘ Cheerful
3. ✘ Happy
4. ✘ Sweet

Question Number : 144 Question Id : 5459276810 Question Type : MCQ Option Shuffling : Yes Display Question Number : Yes
Single Line Question Option : No Option Orientation : Vertical

Correct Marks : 1 Wrong Marks : 0.25

Choose the word that means the same as the given word.

Obstacle

Options :

1. ✘ Ease
2. ✔ Hindrance
3. ✘ Slow
4. ✘ Bold

Question Number : 144 Question Id : 5459276810 Question Type : MCQ Option Shuffling : Yes Display Question Number : Yes
Single Line Question Option : No Option Orientation : Vertical

Correct Marks : 1 Wrong Marks : 0.25

Choose the word that means the same as the given word.

Obstacle

Options :

1. ✘ Ease
2. ✔ Hindrance
3. ✘ Slow
4. ✘ Bold

Question Number : 145 Question Id : 5459276811 Question Type : MCQ Option Shuffling : Yes Display Question Number : Yes
Single Line Question Option : No Option Orientation : Vertical

Correct Marks : 1 Wrong Marks : 0.25

Choose the word that is opposite in meaning to the given word.

Halt

Options :

1. ✘ Impress
2. ✘ Favour
3. ✔ Persuade
4. ✘ Deliver

Question Number : 145 Question Id : 5459276811 Question Type : MCQ Option Shuffling : Yes Display Question Number : Yes
Single Line Question Option : No Option Orientation : Vertical

Correct Marks : 1 Wrong Marks : 0.25

Choose the word that is opposite in meaning to the given word.

Halt

Options :

1. ✘ Impress
2. ✘ Favour
3. ✔ Persuade
4. ✘ Deliver

Question Number : 146 Question Id : 5459276812 Question Type : MCQ Option Shuffling : Yes Display Question Number : Yes
Single Line Question Option : No Option Orientation : Vertical

Correct Marks : 1 Wrong Marks : 0.25

Choose the word that is opposite in meaning to the given word.

Raid

Options :

1. ✓ Release
2. ✗ Retreat
3. ✗ Agitate
4. ✗ Plain

Question Number : 146 Question Id : 5459276812 Question Type : MCQ Option Shuffling : Yes Display Question Number : Yes
Single Line Question Option : No Option Orientation : Vertical

Correct Marks : 1 Wrong Marks : 0.25

Choose the word that is opposite in meaning to the given word.

Raid

Options :

1. ✓ Release
2. ✗ Retreat
3. ✗ Agitate
4. ✗ Plain

Question Number : 147 Question Id : 5459276813 Question Type : MCQ Option Shuffling : Yes Display Question Number : Yes
Single Line Question Option : No Option Orientation : Vertical

Correct Marks : 1 Wrong Marks : 0.25

In the given question, four words are given out of which one word is correctly spelt. Choose the correctly spelt word.

Options :

1. ✓ Guarantee
2. ✗ Gaurantee
3. ✗ Guarentee
4. ✗ Gauranty

Question Number : 147 Question Id : 5459276813 Question Type : MCQ Option Shuffling : Yes Display Question Number : Yes
Single Line Question Option : No Option Orientation : Vertical

Correct Marks : 1 Wrong Marks : 0.25

In the given question, four words are given out of which one word is correctly spelt. Choose the correctly spelt word.

Options :

1. ✓ Guarantee
2. ✗ Gaurantee
3. ✗ Guarentee
4. ✗ Gauranty

Question Number : 148 Question Id : 5459276814 Question Type : MCQ Option Shuffling : Yes Display Question Number : Yes
Single Line Question Option : No Option Orientation : Vertical

Correct Marks : 1 Wrong Marks : 0.25

In the given question, four words are given out of which one word is correctly spelt. Choose the correctly spelt word.

Options :

1. ✘ Equepment
2. ✔ Equipment
3. ✘ Equipmant
4. ✘ Aquipment

Question Number : 148 Question Id : 5459276814 Question Type : MCQ Option Shuffling : Yes Display Question Number : Yes
Single Line Question Option : No Option Orientation : Vertical

Correct Marks : 1 Wrong Marks : 0.25

In the given question, four words are given out of which one word is correctly spelt. Choose the correctly spelt word.

Options :

1. ✘ Equepment
2. ✔ Equipment
3. ✘ Equipmant
4. ✘ Aquipment

Question Number : 149 Question Id : 5459276815 Question Type : MCQ Option Shuffling : Yes Display Question Number : Yes
Single Line Question Option : No Option Orientation : Vertical

Correct Marks : 1 Wrong Marks : 0.25

In the given question, four words are given out of which one word is correctly spelt. Choose the correctly spelt word.

Options :

1. ✘ Harrass
2. ✘ Haras
3. ✔ Harass
4. ✘ Haress

Question Number : 149 Question Id : 5459276815 Question Type : MCQ Option Shuffling : Yes Display Question Number : Yes
Single Line Question Option : No Option Orientation : Vertical

Correct Marks : 1 Wrong Marks : 0.25

In the given question, four words are given out of which one word is correctly spelt. Choose the correctly spelt word.

Options :

1. ✘ Harrass
2. ✘ Haras
3. ✔ Harass
4. ✘ Haress

Question Number : 150 Question Id : 5459276816 Question Type : MCQ Option Shuffling : Yes Display Question Number : Yes
Single Line Question Option : No Option Orientation : Vertical

Correct Marks : 1 Wrong Marks : 0.25

In the following question, out of the given four alternatives, select the alternative which best expresses the meaning of the Idiom/Phrase.

Off and on

Options :

1. ✘ Not binding
2. ✔ Occasionally
3. ✘ Rubbish

4. ✖ Summary

Question Number : 150 Question Id : 5459276816 Question Type : MCQ Option Shuffling : Yes Display Question Number : Yes
Single Line Question Option : No Option Orientation : Vertical

Correct Marks : 1 Wrong Marks : 0.25

In the following question, out of the given four alternatives, select the alternative which best expresses the meaning of the Idiom/Phrase.

Off and on

Options :

1. ✖ Not binding
2. ✔ Occasionally
3. ✖ Rubbish
4. ✖ Summary

Question Number : 151 Question Id : 5459276817 Question Type : MCQ Option Shuffling : Yes Display Question Number : Yes
Single Line Question Option : No Option Orientation : Vertical

Correct Marks : 1 Wrong Marks : 0.25

In the following question, out of the given four alternatives, select the alternative which best expresses the meaning of the Idiom/Phrase.

On the face of it

Options :

1. ✖ Remote
2. ✖ Ordinary
3. ✔ Superficially
4. ✖ Declining

Question Number : 151 Question Id : 5459276817 Question Type : MCQ Option Shuffling : Yes Display Question Number : Yes
Single Line Question Option : No Option Orientation : Vertical

Correct Marks : 1 Wrong Marks : 0.25

In the following question, out of the given four alternatives, select the alternative which best expresses the meaning of the Idiom/Phrase.

On the face of it

Options :

1. ✖ Remote
2. ✖ Ordinary
3. ✔ Superficially
4. ✖ Declining

Question Number : 152 Question Id : 5459276818 Question Type : MCQ Option Shuffling : Yes Display Question Number : Yes
Single Line Question Option : No Option Orientation : Vertical

Correct Marks : 1 Wrong Marks : 0.25

In the following question, out of the given four alternatives, select the alternative which best expresses the meaning of the Idiom/Phrase.

Stone's throw

Options :

1. ✔ At a short distance
2. ✖ On all sides

3. ✖ Useless
4. ✖ About to perish

Question Number : 152 Question Id : 5459276818 Question Type : MCQ Option Shuffling : Yes Display Question Number : Yes Single Line Question Option : No Option Orientation : Vertical

Correct Marks : 1 Wrong Marks : 0.25

In the following question, out of the given four alternatives, select the alternative which best expresses the meaning of the Idiom/Phrase.

Stone's throw

Options :

1. ✔ At a short distance
2. ✖ On all sides
3. ✖ Useless
4. ✖ About to perish

Question Number : 153 Question Id : 5459276819 Question Type : MCQ Option Shuffling : Yes Display Question Number : Yes Single Line Question Option : No Option Orientation : Vertical

Correct Marks : 1 Wrong Marks : 0.25

Choose the word that can substitute the given sentence.

A number of people listening to a lecture.

Options :

1. ✔ Audience
2. ✖ Candidates
3. ✖ Voters
4. ✖ Witnesses

Question Number : 153 Question Id : 5459276819 Question Type : MCQ Option Shuffling : Yes Display Question Number : Yes Single Line Question Option : No Option Orientation : Vertical

Correct Marks : 1 Wrong Marks : 0.25

Choose the word that can substitute the given sentence.

A number of people listening to a lecture.

Options :

1. ✔ Audience
2. ✖ Candidates
3. ✖ Voters
4. ✖ Witnesses

Question Number : 154 Question Id : 5459276820 Question Type : MCQ Option Shuffling : Yes Display Question Number : Yes Single Line Question Option : No Option Orientation : Vertical

Correct Marks : 1 Wrong Marks : 0.25

Choose the word that can substitute the given sentence.

The life history of a person written by himself

Options :

1. ✖ Biography
2. ✖ Story
3. ✔ Autobiography

4. ✘ Blog

Question Number : 154 Question Id : 5459276820 Question Type : MCQ Option Shuffling : Yes Display Question Number : Yes
Single Line Question Option : No Option Orientation : Vertical

Correct Marks : 1 Wrong Marks : 0.25

Choose the word that can substitute the given sentence.

The life history of a person written by himself

Options :

1. ✘ Biography

2. ✘ Story

3. ✔ Autobiography

4. ✘ Blog

Question Number : 155 Question Id : 5459276821 Question Type : MCQ Option Shuffling : Yes Display Question Number : Yes
Single Line Question Option : No Option Orientation : Vertical

Correct Marks : 1 Wrong Marks : 0.25

Choose the word that can substitute the given sentence.

Allowance paid to wife on legal separation

Options :

1. ✘ Fees

2. ✘ Fine

3. ✘ Settlement

4. ✔ Alimony

Question Number : 155 Question Id : 5459276821 Question Type : MCQ Option Shuffling : Yes Display Question Number : Yes
Single Line Question Option : No Option Orientation : Vertical

Correct Marks : 1 Wrong Marks : 0.25

Choose the word that can substitute the given sentence.

Allowance paid to wife on legal separation

Options :

1. ✘ Fees

2. ✘ Fine

3. ✘ Settlement

4. ✔ Alimony

Sub-Section Number:	2
Sub-Section Id:	545927405
Question Shuffling Allowed :	Yes

Question Id : 5459276822 Question Type : COMPREHENSION Sub Question Shuffling Allowed : Yes Group Comprehension
Questions : No

Question Numbers : (156 to 160)

Question Label : Comprehension

Read the following information carefully and answer the given questions.

Is military power important in world politics? Its roots are found in a number of assumptions about the transforming role of military force in world politics. For instance, given the destructiveness of both conventional and nuclear weapons, it finds expression among those who ask whether modern weapons are too dangerous to be employed. It finds expression in questions concerning the control of weapons: Is proper control possible? Is accidental holocaust avoidable?

It is even inherent in the concern of those who question the deterrent value of military power. Do arms deter attacks by others? Or instead, because of the fear, distrust, and threats they elicit might weapons ironically invite pre-emptive attacks by suspicious adversaries on whom they are targeted? Because security is a psychological phenomenon, is it necessary to be augmented by the acquisition of more weapons of war? The experience of the United States during the Vietnam War is consistent with the argument that military power does not equal political influence. Vietnam demonstrated in a vivid and disturbing manner that superior firepower did not enable a powerful nation to "get the other fellow to comply" with its preferences. Vietnam was a test of the thesis that force yields influence and the results showed the inadequacies of military might in molding behaviour to many observers, Vietnam illustrated the impracticality of seeking military solutions to political problems in the contemporary world.

However, there is much inherent in the system of global politics that resists the logic of this lesson. The things that hurt, instruct, Benjamin Franklin noted. It took as costly an event as Vietnam to demonstrate the inability of a vastly superior military power to enforce its will on a small and weak country. But the lesson, like the memory of the war itself, may easily fade with the disappearance of the pain it produced. Must the world be hurt before it can be instructed? Is it not disturbing to think of the costs that may have to be paid again in order to re-learn that weapons cannot solve many of the world's problems?

Sub questions

Question Number : 156 Question Id : 5459276823 Question Type : MCQ Option Shuffling : Yes Display Question Number : Yes Single Line Question Option : No Option Orientation : Vertical

Correct Marks : 1 Wrong Marks : 0.25

What does the author mean by 'security is a psychological phenomenon'?

Options :

- ✘ Arms deter attack by others
- ✘ Augmentation of the acquisition of more weapons of war
- ✔ Fear, distrust and threat invite pre-emptive attacks by suspicious adversaries
- ✘ No option is correct

Question Number : 157 Question Id : 5459276824 Question Type : MCQ Option Shuffling : Yes Display Question Number : Yes Single Line Question Option : No Option Orientation : Vertical

Correct Marks : 1 Wrong Marks : 0.25

What are the transforming roles of the military force in world politics?

Options :

- ✔ Destructiveness of both conventional nuclear weapons
- ✘ Deterrent value of military power
- ✘ Destructiveness of both conventional nuclear weapons and deterrent value of military power
- ✘ No option is correct

Question Number : 158 Question Id : 5459276825 Question Type : MCQ Option Shuffling : Yes Display Question Number : Yes Single Line Question Option : No Option Orientation : Vertical

Correct Marks : 1 Wrong Marks : 0.25

Why is it a fear that military power is not equal to political influence?

Options :

- ✔ Superior firepower did not enable a powerful nation
- ✘ Military cannot be the solution of the contemporary political problems
- ✘ Both has distinct arena

4. ✘ No option is correct

Question Number : 159 Question Id : 5459276826 Question Type : MCQ Option Shuffling : Yes Display Question Number : Yes
Single Line Question Option : No Option Orientation : Vertical

Correct Marks : 1 Wrong Marks : 0.25

How can weapons not solve many of the world's problems?

Options :

1. ✘ It is disturbing the costs that occurred after the war
2. ✘ Trade activities got hampered
3. ✘ It is disturbing the costs that occurred after the war and Trade activities got hampered
4. ✔ No option is correct

Question Number : 160 Question Id : 5459276827 Question Type : MCQ Option Shuffling : Yes Display Question Number : Yes
Single Line Question Option : No Option Orientation : Vertical

Correct Marks : 1 Wrong Marks : 0.25

Upto what extent in adequacies of military might unable to mold political behaviour?

Options :

1. ✔ Vietnam war illustrated the impracticality of seeking military solutions for political problems
2. ✘ Childcare, education and health of the population may pose a political instability
3. ✘ Vietnam war illustrated the impracticality of seeking military solutions for political problems and Childcare, education and health of the population may pose a political instability
4. ✘ No option is correct

Question Id : 5459276822 Question Type : COMPREHENSION Sub Question Shuffling Allowed : Yes Group Comprehension
Questions : No

Question Numbers : (156 to 160)

Question Label : Comprehension

Read the following information carefully and answer the given questions.

Is military power important in world politics? Its roots are found in a number of assumptions about the transforming role of military force in world politics. For instance, given the destructiveness of both conventional and nuclear weapons, it finds expression among those who ask whether modern weapons are too dangerous to be employed. It finds expression in questions concerning the control of weapons: Is proper control possible? Is accidental holocaust avoidable?

It is even inherent in the concern of those who question the deterrent value of military power. Do arms deter attacks by others? Or instead, because of the fear, distrust, and threats they elicit might weapons ironically invite pre-emptive attacks by suspicious adversaries on whom they are targeted? Because security is a psychological phenomenon, is it necessary to be augmented by the acquisition of more weapons of war? The experience of the United States during the Vietnam War is consistent with the argument that military power does not equal political influence. Vietnam demonstrated in a vivid and disturbing manner that superior firepower did not enable a powerful nation to "get the other fellow to comply" with its preferences. Vietnam was a test of the thesis that force yields influence and the results showed the inadequacies of military might in molding behaviour to many observers, Vietnam illustrated the impracticality of seeking military solutions to political problems in the contemporary world.

However, there is much inherent in the system of global politics that resists the logic of this lesson. The things that hurt, instruct, Benjamin Franklin noted. It took as costly an event as Vietnam to demonstrate the inability of a vastly superior military power to enforce its will on a small and weak country. But the lesson, like the memory of the war itself, may easily fade with the disappearance of the pain it produced. Must the world be hurt before it can be instructed? Is it not disturbing to think of the costs that may have to be paid again in order to re-learn that weapons cannot solve many of the world's problems?

Sub questions

Question Number : 156 Question Id : 5459276823 Question Type : MCQ Option Shuffling : Yes Display Question Number : Yes
Single Line Question Option : No Option Orientation : Vertical

Correct Marks : 1 Wrong Marks : 0.25

What does the author mean by 'security is a psychological phenomenon'?

Options :

- ✘ Arms deter attack by others
- ✘ Augmentation of the acquisition of more weapons of war
- ✔ Fear, distrust and threat invite pre-emptive attacks by suspicious adversaries
- ✘ No option is correct

Question Number : 157 Question Id : 5459276824 Question Type : MCQ Option Shuffling : Yes Display Question Number : Yes Single Line Question Option : No Option Orientation : Vertical

Correct Marks : 1 Wrong Marks : 0.25

What are the transforming roles of the military force in world politics?

Options :

- ✔ Destructiveness of both conventional nuclear weapons
- ✘ Deterrent value of military power
- ✘ Destructiveness of both conventional nuclear weapons and deterrent value of military power
- ✘ No option is correct

Question Number : 158 Question Id : 5459276825 Question Type : MCQ Option Shuffling : Yes Display Question Number : Yes Single Line Question Option : No Option Orientation : Vertical

Correct Marks : 1 Wrong Marks : 0.25

Why is it a fear that military power is not equal to political influence?

Options :

- ✔ Superior firepower did not enable a powerful nation
- ✘ Military cannot be the solution of the contemporary political problems
- ✘ Both has distinct arena
- ✘ No option is correct

Question Number : 159 Question Id : 5459276826 Question Type : MCQ Option Shuffling : Yes Display Question Number : Yes Single Line Question Option : No Option Orientation : Vertical

Correct Marks : 1 Wrong Marks : 0.25

How can weapons not solve many of the world's problems?

Options :

- ✘ It is disturbing the costs that occurred after the war
- ✘ Trade activities got hampered
- ✘ It is disturbing the costs that occurred after the war and Trade activities got hampered
- ✔ No option is correct

Question Number : 160 Question Id : 5459276827 Question Type : MCQ Option Shuffling : Yes Display Question Number : Yes Single Line Question Option : No Option Orientation : Vertical

Correct Marks : 1 Wrong Marks : 0.25

Upto what extent in adequacies of military might unable to mold political behaviour?

Options :

- ✔ Vietnam war illustrated the impracticality of seeking military solutions for political problems
- ✘ Childcare, education and health of the population may pose a political instability
- ✘ Vietnam war illustrated the impracticality of seeking military solutions for political problems and Childcare, education and health of the population may pose a political instability
- ✘ No option is correct

General Hindi 1

Group Number :	9
Group Id :	545927339
Group Maximum Duration :	0
Group Minimum Duration :	0
Revisit allowed for view? :	No
Revisit allowed for edit? :	No
Break time:	0
Group Marks:	20
Revisit allowed for group Instructions? :	Yes
Maximum Instruction Time:	0
Minimum Instruction Time:	0

General Hindi 1

Section Id :	545927339
Section Number :	1
Section type :	Online
Mandatory or Optional:	Mandatory
Number of Questions:	20
Number of Questions to be attempted:	20
Section Marks:	20
Display Number Panel:	Yes
Group All Questions:	No

Sub-Section Number:	1
Sub-Section Id:	545927406
Question Shuffling Allowed :	Yes

Question Number : 161 Question Id : 5459276828 Question Type : MCQ Option Shuffling : Yes Display Question Number : Yes
Single Line Question Option : No Option Orientation : Vertical

Correct Marks : 1 Wrong Marks : 0.25

दिए गए शब्द में प्रत्यय ज्ञात कीजिए।

भारतीय

Options :

1. ✓ ईय
2. ✗ भार
3. ✗ तीय
4. ✗ रती

Question Number : 161 Question Id : 5459276828 Question Type : MCQ Option Shuffling : Yes Display Question Number : Yes
Single Line Question Option : No Option Orientation : Vertical

Correct Marks : 1 Wrong Marks : 0.25

दिए गए शब्द में प्रत्यय ज्ञात कीजिए।

भारतीय

Options :

1. ✓ ईय
2. ✗ भार
3. ✗ तीय
4. ✗ रती

Question Number : 162 Question Id : 5459276829 Question Type : MCQ Option Shuffling : Yes Display Question Number : Yes
Single Line Question Option : No Option Orientation : Vertical

Correct Marks : 1 Wrong Marks : 0.25

दिए गए शब्द का संधि विच्छेद कीजिए।

दिग्गज

Options :

1. ✗ दिग् + गज
2. ✓ दिक् + गज
3. ✗ दिग् + गज
4. ✗ दिक् + गज

Question Number : 162 Question Id : 5459276829 Question Type : MCQ Option Shuffling : Yes Display Question Number : Yes
Single Line Question Option : No Option Orientation : Vertical

Correct Marks : 1 Wrong Marks : 0.25

दिए गए शब्द का संधि विच्छेद कीजिए।

दिग्गज

Options :

1. ✗ दिग् + गज
2. ✓ दिक् + गज
3. ✗ दिग् + गज
4. ✗ दिक् + गज

Question Number : 163 Question Id : 5459276830 Question Type : MCQ Option Shuffling : Yes Display Question Number : Yes
Single Line Question Option : No Option Orientation : Vertical

Correct Marks : 1 Wrong Marks : 0.25

निम्नलिखित में से कौन सा शब्द गुणवाचक संज्ञा का उदाहरण है?

Options :

1. ✓ सुनहरा
2. ✗ कम
3. ✗ कुछ
4. ✗ कोई

Question Number : 163 Question Id : 5459276830 Question Type : MCQ Option Shuffling : Yes Display Question Number : Yes
Single Line Question Option : No Option Orientation : Vertical

Correct Marks : 1 Wrong Marks : 0.25

निम्नलिखित में से कौन सा शब्द गुणवाचक संज्ञा का उदाहरण है?

Options :

1. ✓ सुनहरा
2. ✗ कम
3. ✗ कुछ
4. ✗ कोई

Question Number : 164 Question Id : 5459276831 Question Type : MCQ Option Shuffling : Yes Display Question Number : Yes
Single Line Question Option : No Option Orientation : Vertical

Correct Marks : 1 Wrong Marks : 0.25

निम्नलिखित में से कौन सा उदाहरण कालवाचक क्रिया विशेषण का है?

Options :

1. ✓ मैं पहले आई थी
2. ✗ आगे खतरा है
3. ✗ भूख से कम खाना चाहिए
4. ✗ रोमा फटाफट तैयार हो गई

Question Number : 164 Question Id : 5459276831 Question Type : MCQ Option Shuffling : Yes Display Question Number : Yes
Single Line Question Option : No Option Orientation : Vertical

Correct Marks : 1 Wrong Marks : 0.25

निम्नलिखित में से कौन सा उदाहरण कालवाचक क्रिया विशेषण का है?

Options :

1. ✓ मैं पहले आई थी
2. ✗ आगे खतरा है
3. ✗ भूख से कम खाना चाहिए
4. ✗ रोमा फटाफट तैयार हो गई

Question Number : 165 Question Id : 5459276832 Question Type : MCQ Option Shuffling : Yes Display Question Number : Yes
Single Line Question Option : No Option Orientation : Vertical

Correct Marks : 1 Wrong Marks : 0.25

दिए गए वाक्य में उचित संबंधबोधक शब्द चुनकर रिक्त स्थान की पूर्ति कीजिए।

मंदिर के _____ हरियाली है।

Options :

1. ✗ ऊपर
2. ✓ चारों ओर
3. ✗ उलटे
4. ✗ अलग

Question Number : 165 Question Id : 5459276832 Question Type : MCQ Option Shuffling : Yes Display Question Number : Yes
Single Line Question Option : No Option Orientation : Vertical

Correct Marks : 1 Wrong Marks : 0.25

दिए गए वाक्य में उचित संबंधबोधक शब्द चुनकर रिक्त स्थान की पूर्ति कीजिए।

मंदिर के _____ हरियाली है।

Options :

1. ✗ ऊपर
2. ✓ चारों ओर
3. ✗ उलटे
4. ✗ अलग

Question Number : 166 Question Id : 5459276833 Question Type : MCQ Option Shuffling : Yes Display Question Number : Yes
Single Line Question Option : No Option Orientation : Vertical

Correct Marks : 1 Wrong Marks : 0.25

दिए गए शब्द युग्म का सही अर्थ ज्ञात कीजिए।

परुष - पुरुष

Options :

1. ✓ कठोर - आदमी
2. ✗ पाषाण - आदमी
3. ✗ औरत - आदमी
4. ✗ परमात्मा - आदमी

Question Number : 166 Question Id : 5459276833 Question Type : MCQ Option Shuffling : Yes Display Question Number : Yes
Single Line Question Option : No Option Orientation : Vertical

Correct Marks : 1 Wrong Marks : 0.25

दिए गए शब्द युग्म का सही अर्थ ज्ञात कीजिए।

परुष - पुरुष

Options :

1. ✓ कठोर - आदमी
2. ✗ पाषाण - आदमी
3. ✗ औरत - आदमी
4. ✗ परमात्मा - आदमी

Question Number : 167 Question Id : 5459276834 Question Type : MCQ Option Shuffling : Yes Display Question Number : Yes
Single Line Question Option : No Option Orientation : Vertical

Correct Marks : 1 Wrong Marks : 0.25

दिए गए वाक्यांश के लिए उचित शब्द का चयन कीजिए।

जिसका जन्म दो बार हुआ हो

Options :

1. ✗ द्विजन्म
2. ✗ दोजन्म
3. ✓ द्विज
4. ✗ दुजन्म

Question Number : 167 Question Id : 5459276834 Question Type : MCQ Option Shuffling : Yes Display Question Number : Yes
Single Line Question Option : No Option Orientation : Vertical

Correct Marks : 1 Wrong Marks : 0.25

दिए गए वाक्यांश के लिए उचित शब्द का चयन कीजिए।

जिसका जन्म दो बार हुआ हो

Options :

1. ✗ द्विजन्म
2. ✗ दोजन्म
3. ✓ द्विज
4. ✗ दुजन्म

Question Number : 168 Question Id : 5459276835 Question Type : MCQ Option Shuffling : Yes Display Question Number : Yes
Single Line Question Option : No Option Orientation : Vertical

Correct Marks : 1 Wrong Marks : 0.25

दिए गए वाक्यांश के लिए उचित शब्द का चयन कीजिए।

जिसने इंदू पर विजय प्राप्त की हो

Options :

1. ✗ इंदूपाल
2. ✗ इंदूकाल

3. ✓ इन्द्रजीत
4. ✗ इन्द्रविजय

Question Number : 168 Question Id : 5459276835 Question Type : MCQ Option Shuffling : Yes Display Question Number : Yes
Single Line Question Option : No Option Orientation : Vertical

Correct Marks : 1 Wrong Marks : 0.25

दिए गए वाक्यांश के लिए उचित शब्द का चयन कीजिए।

जिसने इंद्र पर विजय प्राप्त की हो

Options :

1. ✗ इंद्रपाल
2. ✗ इंद्रकाल
3. ✓ इन्द्रजीत
4. ✗ इन्द्रविजय

Question Number : 169 Question Id : 5459276836 Question Type : MCQ Option Shuffling : Yes Display Question Number : Yes
Single Line Question Option : No Option Orientation : Vertical

Correct Marks : 1 Wrong Marks : 0.25

दिए गए शब्द का पर्यायवाची ज्ञात कीजिए।

धराधर

Options :

1. ✓ पर्वत
2. ✗ आकाश
3. ✗ पवन
4. ✗ धरती

Question Number : 169 Question Id : 5459276836 Question Type : MCQ Option Shuffling : Yes Display Question Number : Yes
Single Line Question Option : No Option Orientation : Vertical

Correct Marks : 1 Wrong Marks : 0.25

दिए गए शब्द का पर्यायवाची ज्ञात कीजिए।

धराधर

Options :

1. ✓ पर्वत
2. ✗ आकाश
3. ✗ पवन
4. ✗ धरती

Question Number : 170 Question Id : 5459276837 Question Type : MCQ Option Shuffling : Yes Display Question Number : Yes
Single Line Question Option : No Option Orientation : Vertical

Correct Marks : 1 Wrong Marks : 0.25

दिए गए शब्द का विलोम शब्द ज्ञात कीजिए।

मितव्यय

Options :

1. ✗ अव्यय
2. ✓ अपव्यय
3. ✗ अनव्यय
4. ✗ विव्यय

Question Number : 170 Question Id : 5459276837 Question Type : MCQ Option Shuffling : Yes Display Question Number : Yes
Single Line Question Option : No Option Orientation : Vertical

Correct Marks : 1 Wrong Marks : 0.25

दिए गए शब्द का विलोम शब्द ज्ञात कीजिए।

मितव्यय

Options :

1. ✘ अव्यय
2. ✔ अपव्यय
3. ✘ अनव्यय
4. ✘ विव्यय

Question Number : 171 Question Id : 5459276838 Question Type : MCQ Option Shuffling : Yes Display Question Number : Yes
Single Line Question Option : No Option Orientation : Vertical

Correct Marks : 1 Wrong Marks : 0.25

दिए गए शब्दों में से शुद्ध वर्तनी का चयन कीजिए।

Options :

1. ✘ पंचमाहाभूत
2. ✘ पंचमहाभुत
3. ✔ पंचमहाभूत
4. ✘ पंचमभूत

Question Number : 171 Question Id : 5459276838 Question Type : MCQ Option Shuffling : Yes Display Question Number : Yes
Single Line Question Option : No Option Orientation : Vertical

Correct Marks : 1 Wrong Marks : 0.25

दिए गए शब्दों में से शुद्ध वर्तनी का चयन कीजिए।

Options :

1. ✘ पंचमाहाभूत
2. ✘ पंचमहाभुत
3. ✔ पंचमहाभूत
4. ✘ पंचमभूत

Question Number : 172 Question Id : 5459276839 Question Type : MCQ Option Shuffling : Yes Display Question Number : Yes
Single Line Question Option : No Option Orientation : Vertical

Correct Marks : 1 Wrong Marks : 0.25

दिए गए वाक्य में रिक्त स्थानों की पूर्ति कीजिए।

विद्या के _____ सफलता नहीं है।

Options :

1. ✘ आगे
2. ✔ बिना
3. ✘ ऊपर
4. ✘ भीतर

Question Number : 172 Question Id : 5459276839 Question Type : MCQ Option Shuffling : Yes Display Question Number : Yes
Single Line Question Option : No Option Orientation : Vertical

Correct Marks : 1 Wrong Marks : 0.25

दिए गए वाक्य में रिक्त स्थाना की पूर्ति कीजिए।

विद्या के _____ सफलता नहीं है।

Options :

1. ✘ आगे
2. ✔ बिना
3. ✘ ऊपर
4. ✘ भीतर

Question Number : 173 Question Id : 5459276840 Question Type : MCQ Option Shuffling : Yes Display Question Number : Yes
Single Line Question Option : No Option Orientation : Vertical

Correct Marks : 1 Wrong Marks : 0.25

निम्नलिखित में से कौन सा थोड़ा का पर्यायवाची नहीं है?

Options :

1. ✘ कम
2. ✔ वित्त
3. ✘ न्यून
4. ✘ अल्प

Question Number : 173 Question Id : 5459276840 Question Type : MCQ Option Shuffling : Yes Display Question Number : Yes
Single Line Question Option : No Option Orientation : Vertical

Correct Marks : 1 Wrong Marks : 0.25

निम्नलिखित में से कौन सा थोड़ा का पर्यायवाची नहीं है?

Options :

1. ✘ कम
2. ✔ वित्त
3. ✘ न्यून
4. ✘ अल्प

Question Number : 174 Question Id : 5459276841 Question Type : MCQ Option Shuffling : Yes Display Question Number : Yes
Single Line Question Option : No Option Orientation : Vertical

Correct Marks : 1 Wrong Marks : 0.25

दिए गए शब्दों में से अशुद्ध शब्द का चयन कीजिए।

Options :

1. ✘ आखर
2. ✘ कवि
3. ✘ अग्नि
4. ✔ आजिविका

Question Number : 174 Question Id : 5459276841 Question Type : MCQ Option Shuffling : Yes Display Question Number : Yes
Single Line Question Option : No Option Orientation : Vertical

Correct Marks : 1 Wrong Marks : 0.25

दिए गए शब्दों में से अशुद्ध शब्द का चयन कीजिए।

Options :

1. ✘ आखर
2. ✘ कवि
3. ✘ अग्नि
4. ✔ आजिविका

Question Number : 175 Question Id : 5459276842 Question Type : MCQ Option Shuffling : Yes Display Question Number : Yes
Single Line Question Option : No Option Orientation : Vertical

Correct Marks : 1 Wrong Marks : 0.25

निम्नलिखित में से कौन सा शब्द युग्म - समरूपी - भिन्नार्थक नहीं है?

Options :

- ✘ आकर - आकार
- ✘ उपयुक्त - उपर्युक्त
- ✘ गुड़ - गूढ़
- ✔ जन्म - मरण

Question Number : 175 Question Id : 5459276842 Question Type : MCQ Option Shuffling : Yes Display Question Number : Yes
Single Line Question Option : No Option Orientation : Vertical

Correct Marks : 1 Wrong Marks : 0.25

निम्नलिखित में से कौन सा शब्द युग्म - समरूपी - भिन्नार्थक नहीं है?

Options :

- ✘ आकर - आकार
- ✘ उपयुक्त - उपर्युक्त
- ✘ गुड़ - गूढ़
- ✔ जन्म - मरण

Question Number : 176 Question Id : 5459276843 Question Type : MCQ Option Shuffling : Yes Display Question Number : Yes
Single Line Question Option : No Option Orientation : Vertical

Correct Marks : 1 Wrong Marks : 0.25

दिए गए वाक्यों में से शुद्ध वाक्य का चयन कीजिए

Options :

- ✔ मैंने ग्रहकार्य नहीं किया।
- ✘ मैंने ग्रकार्य नहीं किया।
- ✘ मैं गृहकार्य नहीं किया।
- ✘ मैंने गृह से कार्य नहीं किया।

Question Number : 176 Question Id : 5459276843 Question Type : MCQ Option Shuffling : Yes Display Question Number : Yes
Single Line Question Option : No Option Orientation : Vertical

Correct Marks : 1 Wrong Marks : 0.25

दिए गए वाक्यों में से शुद्ध वाक्य का चयन कीजिए

Options :

- ✔ मैंने ग्रहकार्य नहीं किया।
- ✘ मैंने ग्रकार्य नहीं किया।
- ✘ मैं गृहकार्य नहीं किया।
- ✘ मैंने गृह से कार्य नहीं किया।

Question Number : 177 Question Id : 5459276844 Question Type : MCQ Option Shuffling : Yes Display Question Number : Yes
Single Line Question Option : No Option Orientation : Vertical

Correct Marks : 1 Wrong Marks : 0.25

दिए गए वाक्य का काल ज्ञात कीजिए

अर्पित ने मैच जीत लिया होगा।

Options :

- ✘ आसन्न भूतकाल

2. ✓ संदिग्ध भूतकाल
3. ✗ अपूर्ण भूतकाल
4. ✗ संदिग्ध भविष्यकाल

Question Number : 177 Question Id : 5459276844 Question Type : MCQ Option Shuffling : Yes Display Question Number : Yes
Single Line Question Option : No Option Orientation : Vertical

Correct Marks : 1 Wrong Marks : 0.25

दिए गए वाक्य का काल ज्ञात कीजिए।

अर्पित ने मैच जीत लिया होगा।

Options :

1. ✗ आसन्न भूतकाल
2. ✓ संदिग्ध भूतकाल
3. ✗ अपूर्ण भूतकाल
4. ✗ संदिग्ध भविष्यकाल

Question Number : 178 Question Id : 5459276845 Question Type : MCQ Option Shuffling : Yes Display Question Number : Yes
Single Line Question Option : No Option Orientation : Vertical

Correct Marks : 1 Wrong Marks : 0.25

दिए गए वाक्य के कारक की विभक्ति ज्ञात कीजिए।

सीमा चमच्च से खाना खाती है।

Options :

1. ✗ संप्रदान
2. ✓ करण
3. ✗ कर्ता
4. ✗ अपादान

Question Number : 178 Question Id : 5459276845 Question Type : MCQ Option Shuffling : Yes Display Question Number : Yes
Single Line Question Option : No Option Orientation : Vertical

Correct Marks : 1 Wrong Marks : 0.25

दिए गए वाक्य के कारक की विभक्ति ज्ञात कीजिए।

सीमा चमच्च से खाना खाती है।

Options :

1. ✗ संप्रदान
2. ✓ करण
3. ✗ कर्ता
4. ✗ अपादान

Question Number : 179 Question Id : 5459276846 Question Type : MCQ Option Shuffling : Yes Display Question Number : Yes
Single Line Question Option : No Option Orientation : Vertical

Correct Marks : 1 Wrong Marks : 0.25

दिए गए वाक्य में वृत्ति के रूप की पहचान कीजिए।

मोहन खाना खाता है।

Options :

1. ✗ अज्ञार्थक
2. ✗ निश्चयार्थक
3. ✗ संदेहार्थक

4. ✓ संकेतार्थक

Question Number : 179 Question Id : 5459276846 Question Type : MCQ Option Shuffling : Yes Display Question Number : Yes
Single Line Question Option : No Option Orientation : Vertical

Correct Marks : 1 Wrong Marks : 0.25

दिए गए वाक्य में वृत्ति के रूप की पहचान कीजिए।

मोहन खाना खाता है।

Options :

1. ✗ अज्ञार्थक
2. ✗ निश्चयार्थक
3. ✗ संदेहार्थक
4. ✓ संकेतार्थक

Question Number : 180 Question Id : 5459276847 Question Type : MCQ Option Shuffling : Yes Display Question Number : Yes
Single Line Question Option : No Option Orientation : Vertical

Correct Marks : 1 Wrong Marks : 0.25

दिए गए वाक्य से भाववाच्य ज्ञात कीजिए।

राकेश नहीं लिखता।

Options :

1. ✗ राकेश लिखता है।
2. ✓ राकेश से लिखा नहीं जाता।
3. ✗ राकेश के द्वारा लिखा जाता है।
4. ✗ राकेश कलम से नहीं लिखता।

Question Number : 180 Question Id : 5459276847 Question Type : MCQ Option Shuffling : Yes Display Question Number : Yes
Single Line Question Option : No Option Orientation : Vertical

Correct Marks : 1 Wrong Marks : 0.25

दिए गए वाक्य से भाववाच्य ज्ञात कीजिए।

राकेश नहीं लिखता।

Options :

1. ✗ राकेश लिखता है।
2. ✓ राकेश से लिखा नहीं जाता।
3. ✗ राकेश के द्वारा लिखा जाता है।
4. ✗ राकेश कलम से नहीं लिखता।

General Hindi2

Group Number :	10
Group Id :	545927340
Group Maximum Duration :	0
Group Minimum Duration :	120
Revisit allowed for view? :	No
Revisit allowed for edit? :	No
Break time:	0
Group Marks:	20
Revisit allowed for group Instructions? :	Yes
Maximum Instruction Time:	0

Minimum Instruction Time:

0

General Hindi2

Section Id :	545927340
Section Number :	1
Section type :	Online
Mandatory or Optional:	Mandatory
Number of Questions:	16
Number of Questions to be attempted:	16
Section Marks:	20
Display Number Panel:	Yes
Group All Questions:	No

Sub-Section Number:	1
Sub-Section Id:	545927407
Question Shuffling Allowed :	Yes

Question Number : 181 Question Id : 5459276848 Question Type : MCQ Option Shuffling : Yes Display Question Number : Yes
Single Line Question Option : No Option Orientation : Vertical

Correct Marks : 1 Wrong Marks : 0.25

दिए गया वाक्य कौन से पक्ष का उदाहरण है ज्ञात कीजिए।

पिता जी दफ्तर जाते हैं।

Options :

1. ✓ नित्य पक्ष
2. ✗ अपूर्ण पक्ष
3. ✗ पूर्ण पक्ष
4. ✗ सातत्यबोधक पक्ष

Question Number : 181 Question Id : 5459276848 Question Type : MCQ Option Shuffling : Yes Display Question Number : Yes
Single Line Question Option : No Option Orientation : Vertical

Correct Marks : 1 Wrong Marks : 0.25

दिए गया वाक्य कौन से पक्ष का उदाहरण है ज्ञात कीजिए।

पिता जी दफ्तर जाते हैं।

Options :

1. ✓ नित्य पक्ष
2. ✗ अपूर्ण पक्ष
3. ✗ पूर्ण पक्ष
4. ✗ सातत्यबोधक पक्ष

Question Number : 182 Question Id : 5459276849 Question Type : MCQ Option Shuffling : Yes Display Question Number : Yes
Single Line Question Option : No Option Orientation : Vertical

Correct Marks : 1 Wrong Marks : 0.25

दिए गए वाक्य में रेखांकित भाग किस प्रकार का पुरुष है ज्ञात कीजिए।

हमें सदा सत्य बोलना चाहिए।

Options :

1. ✓ उत्तम

2. ✘ मध्यम
3. ✘ अन्य पुरुष
4. ✘ द्वितीय

Question Number : 182 Question Id : 5459276849 Question Type : MCQ Option Shuffling : Yes Display Question Number : Yes
Single Line Question Option : No Option Orientation : Vertical

Correct Marks : 1 Wrong Marks : 0.25

दिए गए वाक्य में रेखांकित भाग किस प्रकार का पुरुष है ज्ञात कीजिए।

हमें सदा सत्य बोलना चाहिए।

Options :

1. ✔ उत्तम
2. ✘ मध्यम
3. ✘ अन्य पुरुष
4. ✘ द्वितीय

Question Number : 183 Question Id : 5459276850 Question Type : MCQ Option Shuffling : Yes Display Question Number : Yes
Single Line Question Option : No Option Orientation : Vertical

Correct Marks : 1 Wrong Marks : 0.25

निम्नलिखित में से कौन सा वाक्य मिश्र वाक्य का उदाहरण है?

Options :

1. ✘ शिशु सोता रहता है।
2. ✘ राम पुस्तक पढ़ता है।
3. ✘ गरीब को लूटने के अतिरिक्त उसने उसकी हत्या भी कर दी।
4. ✔ जो औरत वहां बैठी है वो मेरी माँ है।

Question Number : 183 Question Id : 5459276850 Question Type : MCQ Option Shuffling : Yes Display Question Number : Yes
Single Line Question Option : No Option Orientation : Vertical

Correct Marks : 1 Wrong Marks : 0.25

निम्नलिखित में से कौन सा वाक्य मिश्र वाक्य का उदाहरण है?

Options :

1. ✘ शिशु सोता रहता है।
2. ✘ राम पुस्तक पढ़ता है।
3. ✘ गरीब को लूटने के अतिरिक्त उसने उसकी हत्या भी कर दी।
4. ✔ जो औरत वहां बैठी है वो मेरी माँ है।

Question Number : 184 Question Id : 5459276851 Question Type : MCQ Option Shuffling : Yes Display Question Number : Yes
Single Line Question Option : No Option Orientation : Vertical

Correct Marks : 1 Wrong Marks : 0.25

दिए गए वाक्य के रूप की पहचान कीजिए।

अन्न के नाम सदा _____ होते हैं।

Options :

1. ✔ पुल्लिंग
2. ✘ स्त्रीलिंग
3. ✘ नपुसलिंग
4. ✘ उभयलिंग

Question Number : 184 Question Id : 5459276851 Question Type : MCQ Option Shuffling : Yes Display Question Number : Yes
Single Line Question Option : No Option Orientation : Vertical

Correct Marks : 1 Wrong Marks : 0.25

दिए गए वाक्य के रूप की पहचान कीजिए

अन्न के नाम सदा _____ होते हैं

Options :

1. ✓ पुल्लिंग
2. ✗ स्त्रीलिंग
3. ✗ नपुंसलिंग
4. ✗ उभयलिंग

Question Number : 185 Question Id : 5459276852 Question Type : MCQ Option Shuffling : Yes Display Question Number : Yes
Single Line Question Option : No Option Orientation : Vertical

Correct Marks : 1 Wrong Marks : 0.25

दिए गए शब्द का बहुवचन ज्ञात कीजिए

योद्धा

Options :

1. ✗ युद्ध
2. ✓ योद्धा
3. ✗ योद्धाएँ
4. ✗ यूद्धाओं

Question Number : 185 Question Id : 5459276852 Question Type : MCQ Option Shuffling : Yes Display Question Number : Yes
Single Line Question Option : No Option Orientation : Vertical

Correct Marks : 1 Wrong Marks : 0.25

दिए गए शब्द का बहुवचन ज्ञात कीजिए

योद्धा

Options :

1. ✗ युद्ध
2. ✓ योद्धा
3. ✗ योद्धाएँ
4. ✗ यूद्धाओं

Question Number : 186 Question Id : 5459276853 Question Type : MCQ Option Shuffling : Yes Display Question Number : Yes
Single Line Question Option : No Option Orientation : Vertical

Correct Marks : 1 Wrong Marks : 0.25

दिए गए वाक्य की अशुद्धि का चयन कीजिए

वह सोमवार के दिन गया

Options :

1. ✗ कारक संबंधी
2. ✓ संज्ञा संबंधी
3. ✗ वचन संबंधी
4. ✗ लिंग संबंधी

Question Number : 186 Question Id : 5459276853 Question Type : MCQ Option Shuffling : Yes Display Question Number : Yes
Single Line Question Option : No Option Orientation : Vertical

Correct Marks : 1 Wrong Marks : 0.25

दिए गए वाक्य की अशुद्धि का चयन कीजिए।

वह सोमवार के दिन गया।

Options :

1. ✘ कारक संबंधी
2. ✔ संज्ञा संबंधी
3. ✘ वचन संबंधी
4. ✘ लिंग संबंधी

Question Number : 187 Question Id : 5459276854 Question Type : MCQ Option Shuffling : Yes Display Question Number : Yes
Single Line Question Option : No Option Orientation : Vertical

Correct Marks : 1 Wrong Marks : 0.25

निम्नलिखित प्रश्न में, दिए गए चार विकल्पों में से, उस विकल्प का चयन करें जो दिए गए मुहावरे के अर्थ को सर्वश्रेष्ठ रूप से व्यक्त करता है।

अस्सी की आमद चौरासी का खर्ची

Options :

1. ✘ सूनी अनसुनी करना
2. ✘ मन की बात जानना
3. ✔ आमदनी से अधिक खर्च करना
4. ✘ अति चतुर होना

Question Number : 187 Question Id : 5459276854 Question Type : MCQ Option Shuffling : Yes Display Question Number : Yes
Single Line Question Option : No Option Orientation : Vertical

Correct Marks : 1 Wrong Marks : 0.25

निम्नलिखित प्रश्न में, दिए गए चार विकल्पों में से, उस विकल्प का चयन करें जो दिए गए मुहावरे के अर्थ को सर्वश्रेष्ठ रूप से व्यक्त करता है।

अस्सी की आमद चौरासी का खर्ची

Options :

1. ✘ सूनी अनसुनी करना
2. ✘ मन की बात जानना
3. ✔ आमदनी से अधिक खर्च करना
4. ✘ अति चतुर होना

Question Number : 188 Question Id : 5459276855 Question Type : MCQ Option Shuffling : Yes Display Question Number : Yes
Single Line Question Option : No Option Orientation : Vertical

Correct Marks : 1 Wrong Marks : 0.25

निम्नलिखित प्रश्न में, दिए गए चार विकल्पों में से, उस विकल्प का चयन करें जो दिए गए मुहावरे के अर्थ को सर्वश्रेष्ठ रूप से व्यक्त करता है।

एक लाठी से हाँकना।

Options :

1. ✔ अच्छे बुरे का अंतर न करना
2. ✘ अच्छा - बुरा देख उसी प्रकार का व्यवहार करना
3. ✘ नेता ने समान जनता
4. ✘ मौकापरस्त होना

Question Number : 188 Question Id : 5459276855 Question Type : MCQ Option Shuffling : Yes Display Question Number : Yes
Single Line Question Option : No Option Orientation : Vertical

Correct Marks : 1 Wrong Marks : 0.25

निम्नलिखित प्रश्न में, दिए गए चार विकल्पों में से, उस विकल्प का चयन करें जो दिए गए मुहावरे के अर्थ को सर्वश्रेष्ठ रूप से व्यक्त करता है।

एक लाठी से हाँकना।

Options :

1. ✓ अच्छे बुरे का अंतर न करना
2. ✗ अच्छा - बुरा देख उसी प्रकार का व्यवहार करना
3. ✗ नेता ने समान जनता
4. ✗ मौकापरस्त होना

Question Number : 189 Question Id : 5459276856 Question Type : MCQ Option Shuffling : Yes Display Question Number : Yes
Single Line Question Option : No Option Orientation : Vertical

Correct Marks : 1 Wrong Marks : 0.25

निम्नलिखित प्रश्न में, दिए गए चार विकल्पों में से, उस विकल्प का चयन करें जो दिए गए मुहावरे के अर्थ को सर्वश्रेष्ठ रूप से व्यक्त करता है।

एक और एक ग्यारह होते हैं।

Options :

1. ✗ एक अनार सौ बीमार
2. ✓ एकता में शक्ति होती है
3. ✗ बड़े को कम वस्तु देना
4. ✗ मूर्ख लेकिन धनी

Question Number : 189 Question Id : 5459276856 Question Type : MCQ Option Shuffling : Yes Display Question Number : Yes
Single Line Question Option : No Option Orientation : Vertical

Correct Marks : 1 Wrong Marks : 0.25

निम्नलिखित प्रश्न में, दिए गए चार विकल्पों में से, उस विकल्प का चयन करें जो दिए गए मुहावरे के अर्थ को सर्वश्रेष्ठ रूप से व्यक्त करता है।

एक और एक ग्यारह होते हैं।

Options :

1. ✗ एक अनार सौ बीमार
2. ✓ एकता में शक्ति होती है
3. ✗ बड़े को कम वस्तु देना
4. ✗ मूर्ख लेकिन धनी

Question Number : 190 Question Id : 5459276857 Question Type : MCQ Option Shuffling : Yes Display Question Number : Yes
Single Line Question Option : No Option Orientation : Vertical

Correct Marks : 1 Wrong Marks : 0.25

दिए गए वाक्य की सही लोकोक्ति का चयन कीजिए।

मुसीबत में और मुसीबत आना।

Options :

1. ✓ कंगाली में आटा गीला
2. ✗ साँच को आँच नहीं
3. ✗ मुख में राम - राम, बगल में हुरी
4. ✗ भागते चोर की लंगोटी ही सही

Question Number : 190 Question Id : 5459276857 Question Type : MCQ Option Shuffling : Yes Display Question Number : Yes
Single Line Question Option : No Option Orientation : Vertical

Correct Marks : 1 Wrong Marks : 0.25

दिए गए वाक्य की सही लोकोक्ति का चयन कीजिए।

मुसीबत में और मुसीबत आना।

Options :

1. ✓ कंगाली में आटा गीला

2. ✘ साँच को आँच नहीं
3. ✘ मुख में राम - राम, बगल में हुरी
4. ✘ भागते चोर की लंगोटी ही सही

Question Number : 191 Question Id : 5459276858 Question Type : MCQ Option Shuffling : Yes Display Question Number : Yes
Single Line Question Option : No Option Orientation : Vertical

Correct Marks : 1 Wrong Marks : 0.25

निम्नलिखित प्रश्न में, दिए गए चार विकल्पों में से, उस विकल्प का चयन करें जो दिए गए मुहावरे के अर्थ को सर्वश्रेष्ठ रूप से व्यक्त करता है।

होश आना

Options :

1. ✘ अंत भला सो भला
2. ✔ आँखें खुलना
3. ✘ छक्के छुड़ाना
4. ✘ छठी का दूध याद दिलाना

Question Number : 191 Question Id : 5459276858 Question Type : MCQ Option Shuffling : Yes Display Question Number : Yes
Single Line Question Option : No Option Orientation : Vertical

Correct Marks : 1 Wrong Marks : 0.25

निम्नलिखित प्रश्न में, दिए गए चार विकल्पों में से, उस विकल्प का चयन करें जो दिए गए मुहावरे के अर्थ को सर्वश्रेष्ठ रूप से व्यक्त करता है।

होश आना

Options :

1. ✘ अंत भला सो भला
2. ✔ आँखें खुलना
3. ✘ छक्के छुड़ाना
4. ✘ छठी का दूध याद दिलाना

Question Number : 192 Question Id : 5459276859 Question Type : MCQ Option Shuffling : Yes Display Question Number : Yes
Single Line Question Option : No Option Orientation : Vertical

Correct Marks : 1 Wrong Marks : 0.25

आश्चर्य, शोक, भय, हर्ष आदि को प्रकट करने के लिए किस विराम चिह्न का प्रयोग किया जाता है?

Options :

1. ✘ लाघव
2. ✘ अवतरण
3. ✔ विस्मयबोधक
4. ✘ कोष्ठक

Question Number : 192 Question Id : 5459276859 Question Type : MCQ Option Shuffling : Yes Display Question Number : Yes
Single Line Question Option : No Option Orientation : Vertical

Correct Marks : 1 Wrong Marks : 0.25

आश्चर्य, शोक, भय, हर्ष आदि को प्रकट करने के लिए किस विराम चिह्न का प्रयोग किया जाता है?

Options :

1. ✘ लाघव
2. ✘ अवतरण
3. ✔ विस्मयबोधक
4. ✘ कोष्ठक

Question Number : 193 Question Id : 5459276860 Question Type : MCQ Option Shuffling : Yes Display Question Number : Yes
Single Line Question Option : No Option Orientation : Vertical

Correct Marks : 1 Wrong Marks : 0.25

दिए गए विराम चिह्न के रूप की पहचान कीजिए

0

Options :

1. ✘ निर्देशक
2. ✔ कोष्ठक
3. ✘ संयोजक
4. ✘ उद्धरण

Question Number : 193 Question Id : 5459276860 Question Type : MCQ Option Shuffling : Yes Display Question Number : Yes
Single Line Question Option : No Option Orientation : Vertical

Correct Marks : 1 Wrong Marks : 0.25

दिए गए विराम चिह्न के रूप की पहचान कीजिए

0

Options :

1. ✘ निर्देशक
2. ✔ कोष्ठक
3. ✘ संयोजक
4. ✘ उद्धरण

Question Number : 194 Question Id : 5459276861 Question Type : MCQ Option Shuffling : Yes Display Question Number : Yes
Single Line Question Option : No Option Orientation : Vertical

Correct Marks : 1 Wrong Marks : 0.25

दिए गए वाक्य में उचित विराम चिह्न का चयन कीजिए

सुख दुख में मित्र ही काम आते हैं

Options :

1. ✘ ,, |
2. ✘ ;, |
3. ✔ -, |
4. ✘ !, |

Question Number : 194 Question Id : 5459276861 Question Type : MCQ Option Shuffling : Yes Display Question Number : Yes
Single Line Question Option : No Option Orientation : Vertical

Correct Marks : 1 Wrong Marks : 0.25

दिए गए वाक्य में उचित विराम चिह्न का चयन कीजिए

सुख दुख में मित्र ही काम आते हैं

Options :

1. ✘ ,, |
2. ✘ ;, |
3. ✔ -, |
4. ✘ !, |

Question Number : 195 Question Id : 5459276862 Question Type : MCQ Option Shuffling : Yes Display Question Number : Yes
Single Line Question Option : No Option Orientation : Vertical

Correct Marks : 1 Wrong Marks : 0.25

दिए गए वाक्य में उचित विराम चिह्न का चयन कीजिए।

तुम कहाँ जा रहे हो

Options :

1. ✘ |
2. ✔ ?
3. ✘ ,
4. ✘ ;

Question Number : 195 Question Id : 5459276862 Question Type : MCQ Option Shuffling : Yes Display Question Number : Yes
Single Line Question Option : No Option Orientation : Vertical

Correct Marks : 1 Wrong Marks : 0.25

दिए गए वाक्य में उचित विराम चिह्न का चयन कीजिए।

तुम कहाँ जा रहे हो

Options :

1. ✘ |
2. ✔ ?
3. ✘ ,
4. ✘ ;

Sub-Section Number: 2
Sub-Section Id: 545927408
Question Shuffling Allowed : Yes

Question Id : 5459276863 Question Type : COMPREHENSION Sub Question Shuffling Allowed : Yes Group Comprehension
Questions : No

Question Numbers : (196 to 200)

Question Label : Comprehension

गद्यांश को ध्यानपूर्वक पढ़ें तथा प्रत्येक प्रश्न में चार विकल्पों में से सही विकल्प चुनें।

प्रत्येक व्यक्ति के मन में अच्छाइयों और बुराइयों के भाव जागृत होते हैं। कुछ लोग बुराइयों पर विजय प्राप्त कर लेते हैं। उनमें अच्छे गुणों का विकास होने लगता है। भला करना सर्वश्रेष्ठ गुण माना जाता है। स्वयं के लिए सभी जीते हैं। पशु भी अपने लिए जीते हैं। वास्तविक जीवन तो दूसरों की भलाई करने में है। भला करने वाला व्यक्ति स्वार्थी नहीं होता। वह जो भी कार्य करता है, उसके पीछे दूसरों के कल्याण का अभाव रहता है। भला करने वाला व्यक्ति शांत, विनम्र और सहनशील और सुखी रहता है। उनमें छल-कपट, ईर्ष्या, द्वेष का भाव नहीं रहता। ऐसे व्यक्ति संतोषी होते हैं। सादगी और विचारों की उच्चता उनके लक्षण हैं। भला करने वाले सदा दूसरों के कल्याण के विषय में सोचते रहते हैं। वह समाज का निर्माण करने वाले होते हैं। ऐसा कहा जाता है कि व्यक्ति जैसा करता है वैसा ही पाता है। जैसी करनी, वैसी भरनी; बोया पेड़ बबूल का तो आम कहाँ से होय, अंत भले का भला आदि उक्तियाँ यून ही नहीं बनीं। भला करने वाला दूसरों के विषय में सोचता है। उनके कष्टों को दूर करने का प्रयास करता है। वह अपने कष्ट और पीड़ाएँ भूल जाता है। इसीलिए सुखी रहता है।

Sub questions

Question Number : 196 Question Id : 5459276864 Question Type : MCQ Option Shuffling : Yes Display Question Number : Yes
Single Line Question Option : No Option Orientation : Vertical

Correct Marks : 1 Wrong Marks : 0.25

उपर्युक्त गद्यांश का शीर्षक क्या है?

Options :

1. ✔ भला कर सुखी रह
2. ✘ मन की अच्छाई और बुराई
3. ✘ अंत भले का भला
4. ✘ सुखी जीवन

Question Number : 197 Question Id : 5459276865 Question Type : MCQ Option Shuffling : Yes Display Question Number : Yes
Single Line Question Option : No Option Orientation : Vertical

Correct Marks : 1 Wrong Marks : 0.25

व्यक्ति का सर्वश्रेष्ठ गुण कौन सा माना जाता है?

Options :

1. ✘ सत्य बोलना
2. ✔ भला करना
3. ✘ दान करना
4. ✘ अनाज देना

Question Number : 198 Question Id : 5459276866 Question Type : MCQ Option Shuffling : Yes Display Question Number : Yes
Single Line Question Option : No Option Orientation : Vertical

Correct Marks : 1 Wrong Marks : 0.25

दिए गए वाक्य में रिक्त स्थान की पूर्ति कीजिए।

भला करने वाला _____ नहीं होता।

Options :

1. ✘ सच्चा
2. ✔ स्वार्थी
3. ✘ झूठा
4. ✘ बदमाश

Question Number : 199 Question Id : 5459276867 Question Type : MCQ Option Shuffling : Yes Display Question Number : Yes
Single Line Question Option : No Option Orientation : Vertical

Correct Marks : 1 Wrong Marks : 0.25

व्यक्ति कब सुखी रहता है?

Options :

1. ✔ कष्ट और पीड़ा भूल कर
2. ✘ अपना पैसा देख कर
3. ✘ दूसरों को दुखी देख कर
4. ✘ दूसरों का पैसा देख कर

Question Number : 200 Question Id : 5459276868 Question Type : MCQ Option Shuffling : Yes Display Question Number : Yes
Single Line Question Option : No Option Orientation : Vertical

Correct Marks : 1 Wrong Marks : 0.25

दूसरों के कल्याण के विषय में सोचने का अर्थ क्या है?

Options :

1. ✘ दूसरों को पढ़ाना
2. ✘ दूसरों को दान देना
3. ✔ दूसरों का भला करना
4. ✘ दूसरों को मार देना

Question Id : 5459276863 Question Type : COMPREHENSION Sub Question Shuffling Allowed : Yes Group Comprehension
Questions : No

Question Numbers : (196 to 200)

Question Label : Comprehension

गद्यांश को ध्यानपूर्वक पढ़ें तथा प्रत्येक प्रश्न में चार विकल्पों में से सही विकल्प चुनो

प्रत्येक व्यक्ति के मन में अच्छाइयों और बुराइयों के भाव जागृत होते हैं। कुछ लोग बुराइयों पर विजय प्राप्त कर लेते हैं। उनमें अच्छे गुणों का विकास होने लगता है। भला करना सर्वश्रेष्ठ गुण माना जाता है। स्वयं के लिए सभी जीते हैं। पशु भी अपने लिए जीते हैं। वास्तविक जीवन तो दूसरों की भलाई करने में है। भला करने वाला व्यक्ति स्वार्थी नहीं होता। वह जो भी कार्य करता है, उसके पीछे दूसरों के कल्याण का अभाव रहता है। भला करने वाला व्यक्ति शांत, विनम्र और सहनशील और सुखी रहता है। उनमें छल-कपट, ईर्ष्या, द्वेष का भाव नहीं रहता। ऐसे व्यक्ति संतोषी होते हैं। सादगी और विचारों की उच्चता उनके लक्षण हैं। भला करने वाले सदा दूसरों के कल्याण के विषय में सोचते रहते हैं। वह समाज का निर्माण करने वाले होते हैं। ऐसा कहा जाता है कि व्यक्ति जैसा करता है वैसा ही पाता है। जैसी करनी, वैसी भरनी; बोया पेड़ बबूल का तो आम कहां से होय, अंत भले का भला आदि उक्तियां यूं ही नहीं बनीं। भला करने वाला दूसरों के विषय में सोचता है। उनके कष्टों को दूर करने का प्रयास करता है। वह अपने कष्ट और पीड़ाएँ भूल जाता है। इसीलिए सुखी रहता है।

Sub questions

Question Number : 196 Question Id : 5459276864 Question Type : MCQ Option Shuffling : Yes Display Question Number : Yes Single Line Question Option : No Option Orientation : Vertical

Correct Marks : 1 Wrong Marks : 0.25

उपर्युक्त गद्यांश का शीर्षक क्या है?

Options :

1. ✓ भला कर सुखी रह
2. ✗ मन की अच्छाई और बुराई
3. ✗ अंत भले का भला
4. ✗ सुखी जीवन

Question Number : 197 Question Id : 5459276865 Question Type : MCQ Option Shuffling : Yes Display Question Number : Yes Single Line Question Option : No Option Orientation : Vertical

Correct Marks : 1 Wrong Marks : 0.25

व्यक्ति का सर्वश्रेष्ठ गुण कौन सा माना जाता है?

Options :

1. ✗ सत्य बोलना
2. ✓ भला करना
3. ✗ दान करना
4. ✗ अनाज देना

Question Number : 198 Question Id : 5459276866 Question Type : MCQ Option Shuffling : Yes Display Question Number : Yes Single Line Question Option : No Option Orientation : Vertical

Correct Marks : 1 Wrong Marks : 0.25

दिए गए वाक्य में रिक्त स्थान की पूर्ति कीजिए।

भला करने वाला _____ नहीं होता।

Options :

1. ✗ सच्चा
2. ✓ स्वार्थी
3. ✗ झूठा
4. ✗ बदमाश

Question Number : 199 Question Id : 5459276867 Question Type : MCQ Option Shuffling : Yes Display Question Number : Yes Single Line Question Option : No Option Orientation : Vertical

Correct Marks : 1 Wrong Marks : 0.25

व्यक्ति कब सुखी रहता है?

Options :

1. ✓ कष्ट और पीड़ा भूल कर
2. ✗ अपना पैसा देख कर
3. ✗ दूसरों को दुखी देख कर

4. ✖ दूसरों का पैसा देख कर

Question Number : 200 Question Id : 5459276868 Question Type : MCQ Option Shuffling : Yes Display Question Number : Yes
Single Line Question Option : No Option Orientation : Vertical

Correct Marks : 1 Wrong Marks : 0.25

दूसरों के कल्याण के विषय में सोचने का अर्थ क्या है?

Options :

1. ✖ दूसरों को पढ़ाना
2. ✖ दूसरों को दान देना
3. ✔ दूसरों का भला करना
4. ✖ दूसरों को मार देना