

Education Consultant India Ltd.

Notations :

- 1.Options shown in green color and with ✓ icon are correct.
- 2.Options shown in red color and with ✘ icon are incorrect.

Question Paper Name:	Lower Division Clerk 18th August 2019 S1
Subject Name:	LOWER DIVISION CLERK
Creation Date:	2019-08-18 12:34:26
Duration:	120
Total Marks:	200
Display Marks:	Yes
Share Answer Key With Delivery Engine:	No
Actual Answer Key:	Yes
Calculator:	None
Magnifying Glass Required?:	No
Ruler Required?:	No
Eraser Required?:	No
Scratch Pad Required?:	No
Rough Sketch/Notepad Required?:	No
Protractor Required?:	No
Show Watermark on Console?:	Yes
Highlighter:	No
Auto Save on Console?:	No

Mental Ability 1

Group Number :	1
Group Id :	545927321
Group Maximum Duration :	0
Group Minimum Duration :	0
Revisit allowed for view? :	No
Revisit allowed for edit? :	No
Break time:	0
Group Marks:	20
Revisit allowed for group Instructions? :	Yes
Maximum Instruction Time:	0
Minimum Instruction Time:	0

Mental Ability 1

Section Id :	545927321
Section Number :	1
Section type :	Online
Mandatory or Optional:	Mandatory
Number of Questions:	20
Number of Questions to be attempted:	20
Section Marks:	20

Display Number Panel: Yes
Group All Questions: No

Sub-Section Number: 1
Sub-Section Id: 545927385
Question Shuffling Allowed : Yes

Question Number : 1 Question Id : 5459276465 Question Type : MCQ Option Shuffling : Yes Display Question Number : Yes
Single Line Question Option : No Option Orientation : Vertical

Correct Marks : 1 Wrong Marks : 0.25

Arrange the given words in the sequence in which they occur in the dictionary.

1. Demanding
2. Democracy
3. Demystify
4. Demarcate
5. Decorate

Options :

1. ✘ 54123
2. ✘ 52314
3. ✔ 51423
4. ✘ 52341

Question Number : 1 Question Id : 5459276465 Question Type : MCQ Option Shuffling : Yes Display Question Number : Yes
Single Line Question Option : No Option Orientation : Vertical

Correct Marks : 1 Wrong Marks : 0.25

निम्नलिखित शब्दों को शब्दकोश में आने वाले क्रम के अनुसार लिखें

1. Demanding
2. Democracy
3. Demystify
4. Demarcate
5. Decorate

Options :

1. ✘ 54123
2. ✘ 52314
3. ✔ 51423
4. ✘ 52341

Question Number : 2 Question Id : 5459276466 Question Type : MCQ Option Shuffling : Yes Display Question Number : Yes
Single Line Question Option : No Option Orientation : Vertical

Correct Marks : 1 Wrong Marks : 0.25

एक अनुक्रम दिया गया है, जिसमें से एक पद लुप्त है। दिए गए विकल्पों में से वह सही विकल्प चुनिए, जो अनुक्रम को पूरा करे।

ABC, EFG, IJK, ?, QRS

Options :

1. ✔ MNO
2. ✘ MNP
3. ✘ LMN
4. ✘ KLM

Question Number : 2 Question Id : 5459276466 Question Type : MCQ Option Shuffling : Yes Display Question Number : Yes
Single Line Question Option : No Option Orientation : Vertical

Correct Marks : 1 Wrong Marks : 0.25

A series is given with one term missing. Select the correct alternative from the given ones that will complete the series.

ABC, EFG, IJK, ?, QRS

Options :

1. ✓ MNO
2. ✗ MNP
3. ✗ LMN
4. ✗ KLM

Question Number : 3 Question Id : 5459276467 Question Type : MCQ Option Shuffling : Yes Display Question Number : Yes
Single Line Question Option : No Option Orientation : Vertical

Correct Marks : 1 Wrong Marks : 0.25

एक अनुक्रम दिया गया है, जिसमें से एक पद गलत है। दिए गए विकल्पों में से उस गलत पद को चुनिए।

MHCW, PEFT, RBIQ, VYLN

Options :

1. ✗ MHCW
2. ✗ PEFT
3. ✗ VYLW
4. ✓ RBIQ

Question Number : 3 Question Id : 5459276467 Question Type : MCQ Option Shuffling : Yes Display Question Number : Yes
Single Line Question Option : No Option Orientation : Vertical

Correct Marks : 1 Wrong Marks : 0.25

A series is given with one term wrong. Select that wrong term from the given alternatives.

MHCW, PEFT, RBIQ, VYLN

Options :

1. ✗ MHCW
2. ✗ PEFT
3. ✗ VYLW
4. ✓ RBIQ

Question Number : 4 Question Id : 5459276468 Question Type : MCQ Option Shuffling : Yes Display Question Number : Yes
Single Line Question Option : No Option Orientation : Vertical

Correct Marks : 1 Wrong Marks : 0.25

In the following question, select the odd letter /letters from the given alternatives.

Options :

1. ✗ WUS
2. ✓ GDB
3. ✗ RPN
4. ✗ MKI

Question Number : 4 Question Id : 5459276468 Question Type : MCQ Option Shuffling : Yes Display Question Number : Yes
Single Line Question Option : No Option Orientation : Vertical

Correct Marks : 1 Wrong Marks : 0.25

निम्नलिखित प्रश्न में दिए गए विकल्पों में से विषम अक्षर/अक्षरों को चुनिए

Options :

- ✘ WUS
- ✔ GDB
- ✘ RPN
- ✘ MKI

Question Number : 5 Question Id : 5459276469 Question Type : MCQ Option Shuffling : Yes Display Question Number : Yes
Single Line Question Option : No Option Orientation : Vertical

Correct Marks : 1 Wrong Marks : 0.25

In the following question, select the odd word from the given alternatives.

Options :

- ✔ Chess
- ✘ Cricket
- ✘ Hockey
- ✘ Football

Question Number : 5 Question Id : 5459276469 Question Type : MCQ Option Shuffling : Yes Display Question Number : Yes
Single Line Question Option : No Option Orientation : Vertical

Correct Marks : 1 Wrong Marks : 0.25

निम्नलिखित प्रश्न में दिए गए विकल्पों में से विषम शब्द को चुनिए

Options :

- ✔ शतरंज
- ✘ क्रिकेट
- ✘ हॉकी
- ✘ फुटबॉल

Question Number : 6 Question Id : 5459276470 Question Type : MCQ Option Shuffling : Yes Display Question Number : Yes
Single Line Question Option : No Option Orientation : Vertical

Correct Marks : 1 Wrong Marks : 0.25

In the following question, four letter pairs are given. The letters on left side of (-) is related to the letters on the right side of (-) with some Logic/Rule/Relation. Three are similar on basis of same Logic/Rule/Relation. Select the odd one out from the given alternatives.

Options :

- ✘ ABCD - FGHI
- ✔ NPRT - SUVY
- ✘ IJKL - NOPQ
- ✘ RSTU - WXYZ

Question Number : 6 Question Id : 5459276470 Question Type : MCQ Option Shuffling : Yes Display Question Number : Yes
Single Line Question Option : No Option Orientation : Vertical

Correct Marks : 1 Wrong Marks : 0.25

नीचे दिए गए प्रश्न में, चार अक्षर युग्म दिए गए हैं (-) के बायीं ओर दिये गये अक्षर (-) के दायीं ओर दिये गये अक्षर से किसी तर्क/नियम/संबंध से संबंधित है। तीन उसी एक तर्क/नियम/संबंध के आधार पर समान हैं। दिए गए विकल्पों में से विषम को चुनिए।

Options :

- ✘ ABCD - FGHI
- ✔ NPRT - SUVY
- ✘ IJKL - NOPQ
- ✘ RSTU - WXYZ

Question Number : 7 Question Id : 5459276471 Question Type : MCQ Option Shuffling : Yes Display Question Number : Yes
Single Line Question Option : No Option Orientation : Vertical

Correct Marks : 1 Wrong Marks : 0.25

In the following question, select the related word pair from the given alternatives.

Erase : Rubber :: ?

Options :

1. ✘ Pen : Write
2. ✘ Cut : Pencil
3. ✔ Eat : Spoon
4. ✘ Clock : Time

Question Number : 7 Question Id : 5459276471 Question Type : MCQ Option Shuffling : Yes Display Question Number : Yes
Single Line Question Option : No Option Orientation : Vertical

Correct Marks : 1 Wrong Marks : 0.25

निम्नलिखित प्रश्न में दिए गए विकल्पों में से संबंधित शब्द युग्म को चुनिए।

मिटाना : रबड़ :: ?

Options :

1. ✘ कलम : लिखना
2. ✘ कारना : पेंसिल
3. ✔ खाना : चम्मच
4. ✘ घड़ी : समय

Question Number : 8 Question Id : 5459276472 Question Type : MCQ Option Shuffling : Yes Display Question Number : Yes
Single Line Question Option : No Option Orientation : Vertical

Correct Marks : 1 Wrong Marks : 0.25

In the following question, select the related words from the given alternatives.

Clock : Time :: Thermometer : ?

Options :

1. ✘ Heat
2. ✘ Radiation
3. ✘ Energy
4. ✔ Temperature

Question Number : 8 Question Id : 5459276472 Question Type : MCQ Option Shuffling : Yes Display Question Number : Yes
Single Line Question Option : No Option Orientation : Vertical

Correct Marks : 1 Wrong Marks : 0.25

निम्नलिखित प्रश्न में दिए गए विकल्पों में से संबंधित शब्दों को चुनिए।

घड़ी : समय :: थर्मामीटर : ?

Options :

1. ✘ ऊष्मा
2. ✘ विकिरण
3. ✘ उर्जा
4. ✔ तापमान

Question Number : 9 Question Id : 5459276473 Question Type : MCQ Option Shuffling : Yes Display Question Number : Yes
Single Line Question Option : No Option Orientation : Vertical

Correct Marks : 1 Wrong Marks : 0.25

In the following question, select the related letters from the given alternatives.

KPVA : PUAJF :: BGLQ : ?

Options :

1. ✓ GLQV
2. ✗ MRWC
3. ✗ LGVQ
4. ✗ BGLQ

Question Number : 9 Question Id : 5459276473 Question Type : MCQ Option Shuffling : Yes Display Question Number : Yes
Single Line Question Option : No Option Orientation : Vertical

Correct Marks : 1 Wrong Marks : 0.25

निम्नलिखित प्रश्न में दिए गए विकल्पों में से संबंधित अक्षरों को चुनिए।

KPVA : PUAJF :: BGLQ : ?

Options :

1. ✓ GLQV
2. ✗ MRWC
3. ✗ LGVQ
4. ✗ BGLQ

Question Number : 10 Question Id : 5459276474 Question Type : MCQ Option Shuffling : Yes Display Question Number : Yes
Single Line Question Option : No Option Orientation : Vertical

Correct Marks : 1 Wrong Marks : 0.25

In a certain code language, 'BABY' is called as 'BLACK', 'BLACK' is called as 'RED', 'RED' is called as 'CAKE', 'CAKE' is called as 'TABLE', 'TABLE' is called as 'EYES'. What do we eat?

Options :

1. ✓ TABLE
2. ✗ EYES
3. ✗ RED
4. ✗ CAKE

Question Number : 10 Question Id : 5459276474 Question Type : MCQ Option Shuffling : Yes Display Question Number : Yes
Single Line Question Option : No Option Orientation : Vertical

Correct Marks : 1 Wrong Marks : 0.25

एक विशिष्ट कोड भाषा में, 'बच्चा' को 'काला' कहा जाता है, 'काला' को 'लाल' कहा जाता है, 'लाल' को 'केक' कहा जाता है, 'केक' को 'मेज़' कहा जाता है, 'मेज़' को 'आंखें' कहा जाता है। हम क्या खाते हैं?

Options :

1. ✓ मेज़
2. ✗ आंखें
3. ✗ लाल
4. ✗ केक

Question Number : 11 Question Id : 5459276475 Question Type : MCQ Option Shuffling : Yes Display Question Number : Yes
Single Line Question Option : No Option Orientation : Vertical

Correct Marks : 1 Wrong Marks : 0.25

In a certain code language, 'CAKE' is written as '100', 'GLOW' is written as '285'. What is the code for 'BACK' in that code language?

Options :

1. ✓ 85
2. ✗ 105
3. ✗ 95
4. ✗ 75

Question Number : 11 Question Id : 5459276475 Question Type : MCQ Option Shuffling : Yes Display Question Number : Yes
Single Line Question Option : No Option Orientation : Vertical

Correct Marks : 1 Wrong Marks : 0.25

एक विशिष्ट कोड भाषा में, 'CAKE' को '100' लिखा जाता है, 'GLOW' को '285' लिखा जाता है। इस कोड भाषा में 'BACK' का कोड क्या है?

Options :

1. ✓ 85
2. ✗ 105
3. ✗ 95
4. ✗ 75

Question Number : 12 Question Id : 5459276476 Question Type : MCQ Option Shuffling : Yes Display Question Number : Yes
Single Line Question Option : No Option Orientation : Vertical

Correct Marks : 1 Wrong Marks : 0.25

In a certain code language, 'TABLES' is written as 'SELBAT'. What is the code for 'CHAIRS' in that code language?

Options :

1. ✗ SCHAIR
2. ✗ SRICHA
3. ✓ SRIAHC
4. ✗ SRIHAC

Question Number : 12 Question Id : 5459276476 Question Type : MCQ Option Shuffling : Yes Display Question Number : Yes
Single Line Question Option : No Option Orientation : Vertical

Correct Marks : 1 Wrong Marks : 0.25

एक विशिष्ट कोड भाषा में, 'TABLES' को 'SELBAT' लिखा जाता है। इस कोड भाषा में 'CHAIRS' का कोड क्या है?

Options :

1. ✗ SCHAIR
2. ✗ SRICHA
3. ✓ SRIAHC
4. ✗ SRIHAC

Question Number : 13 Question Id : 5459276477 Question Type : MCQ Option Shuffling : Yes Display Question Number : Yes
Single Line Question Option : No Option Orientation : Vertical

Correct Marks : 1 Wrong Marks : 0.25

Six persons A, B, C, D, E and F are sitting around a circle facing towards the center. Only F is between B and D, Only E is between C and A. C is to the immediate right of B. Who is the neighbour of both A and F?

Options :

1. ✗ B
2. ✗ C
3. ✓ D
4. ✗ E

Question Number : 13 Question Id : 5459276477 Question Type : MCQ Option Shuffling : Yes Display Question Number : Yes
Single Line Question Option : No Option Orientation : Vertical

Correct Marks : 1 Wrong Marks : 0.25

छः व्यक्ति A, B, C, D, E और F केंद्र की ओर मुख करके एक गोले के रईद - गिंद बैठे हैं। B और D के बीच केवल F है। C और A के बीच केवल E है। C, B के तुरंत दायीं ओर है। A और F दोनों का पड़ोसी कौन है?

Options :

- ✘ B
- ✘ C
- ✔ D
- ✘ E

Question Number : 14 Question Id : 5459276478 Question Type : MCQ Option Shuffling : Yes Display Question Number : Yes Single Line Question Option : No Option Orientation : Vertical

Correct Marks : 1 Wrong Marks : 0.25

P, Q, R, S, T, U and V are seven boys. Height of U and V are equal. P is shorter than Q but taller than R. S is shorter than P but taller than R. T is shorter than Q but taller than P. U is taller than Q. How many boys are taller than P?

Options :

- ✘ 2
- ✘ 5
- ✘ 3
- ✔ 4

Question Number : 14 Question Id : 5459276478 Question Type : MCQ Option Shuffling : Yes Display Question Number : Yes Single Line Question Option : No Option Orientation : Vertical

Correct Marks : 1 Wrong Marks : 0.25

P, Q, R, S, T, U और V सात लड़के हैं। U और V की ऊँचाई बराबर है। P, Q से छोटा है, लेकिन R से लंबा है। S, P से छोटा है, लेकिन R से लंबा है। T, Q से छोटा है, लेकिन P से लंबा है। U, Q से लंबा है। P से कितने लड़के लंबे हैं?

Options :

- ✘ 2
- ✘ 5
- ✘ 3
- ✔ 4

Question Number : 15 Question Id : 5459276479 Question Type : MCQ Option Shuffling : Yes Display Question Number : Yes Single Line Question Option : No Option Orientation : Vertical

Correct Marks : 1 Wrong Marks : 0.25

In a group of five girls, Komal is the shortest while Lisa is the tallest. Rohini is taller than Komal but shorter than Veena. Priya is second shortest person girl in the group. Who is the second tallest girl of the group?

Options :

- ✔ Veena
- ✘ Rohini
- ✘ Priya
- ✘ Lisa

Question Number : 15 Question Id : 5459276479 Question Type : MCQ Option Shuffling : Yes Display Question Number : Yes Single Line Question Option : No Option Orientation : Vertical

Correct Marks : 1 Wrong Marks : 0.25

पाँच लड़कियों के एक समूह में, कोमल सबसे छोटी है, जबकि लिसा सबसे लंबी है। रोहिणी कोमल से लंबी है लेकिन वीणा से छोटी है। प्रिया समूह की दूसरी सबसे छोटी लड़की है। समूह की दूसरी सबसे लंबी लड़की कौन है?

Options :

- ✔ वीणा

2. ✘ रोहिणी
3. ✘ प्रिया
4. ✘ लिसा

Question Number : 16 Question Id : 5459276480 Question Type : MCQ Option Shuffling : Yes Display Question Number : Yes
Single Line Question Option : No Option Orientation : Vertical

Correct Marks : 1 Wrong Marks : 0.25

Six persons P, Q, R, S, T and U are sitting around a circular table facing towards the centre. P is third from U. Only U is between S and Q. R is to the immediate left of Q. Which of the following statement(s) is/are correct?

- I. T is sitting to the immediate left of S.
- II. Q is not sitting to the immediate left of U.
- III. R is sitting to the immediate left of P.
- IV. P is not sitting to the immediate left of T.

Options :

1. ✘ I and II
2. ✔ Only IV
3. ✘ Only III
4. ✘ III and IV

Question Number : 16 Question Id : 5459276480 Question Type : MCQ Option Shuffling : Yes Display Question Number : Yes
Single Line Question Option : No Option Orientation : Vertical

Correct Marks : 1 Wrong Marks : 0.25

छ व्यक्ति P, Q, R, S, T और U एक वृत्ताकार मेज़ के रईद - गिंद केन्द्र की ओर मुख करके बैठे हैं। P, U से तीसरा है। S और Q के बीच में केवल U है। R, Q के तुरंत बाईं ओर है। निम्नलिखित में से कौन सा/से कथन सही है/हैं?

- I. T, S के तुरंत बाईं ओर बैठा है।
- II. Q, U के तुरंत बाईं ओर नहीं बैठा है।
- III. R, P के तुरंत बाईं ओर बैठा है।
- IV. P, T के तुरंत दाईं ओर नहीं बैठा है।

Options :

1. ✘ I और II
2. ✔ केवल IV
3. ✘ केवल III
4. ✘ III और IV

Question Number : 17 Question Id : 5459276481 Question Type : MCQ Option Shuffling : Yes Display Question Number : Yes
Single Line Question Option : No Option Orientation : Vertical

Correct Marks : 1 Wrong Marks : 0.25

S1, S2, S3, S4, S5, S6 and S7 are seven students. S6 is taller than S5 but shorter than S4. S3 and S2 are shorter than S1. S5 is shorter than S3 but taller than S2. S2 is the shortest among them. S7 is shorter than S5. How many students are taller than S5?

Options :

1. ✘ 3
2. ✔ 4
3. ✘ 5
4. ✘ 2

Question Number : 17 Question Id : 5459276481 Question Type : MCQ Option Shuffling : Yes Display Question Number : Yes
Single Line Question Option : No Option Orientation : Vertical

Correct Marks : 1 Wrong Marks : 0.25

S1, S2, S3, S4, S5, S6 और S7 सात छात्र हैं। S6, S5 से लम्बा है लेकिन S4 से छोटा है। S3 तथा S2, S1 से छोटे हैं। S5, S3 से छोटा है लेकिन S2 से लम्बा है। S2 इनमें सबसे छोटा है। S7, S5 से छोटा है। कितने छात्र S5 से लम्बे हैं?

Options :

1. ✘ 3
2. ✔ 4
3. ✘ 5
4. ✘ 2

Question Number : 18 Question Id : 5459276482 Question Type : MCQ Option Shuffling : Yes Display Question Number : Yes
Single Line Question Option : No Option Orientation : Vertical

Correct Marks : 1 Wrong Marks : 0.25

In the following question below are given some statements followed by some conclusions based on those statements. Taking the given statements to be true even if they seem to be at variance from commonly known facts. Read all the conclusions and then decide which of the given conclusion logically follows the given statements.

Statements:

- I. Some pens are tables.
- II. Some tables are chairs.

Conclusions:

- I. All tables are pens.
- II. Some pens are chairs.

Options :

1. ✘ Only conclusion I follow
2. ✘ Only conclusion II follow
3. ✘ Both conclusion I and II follow
4. ✔ Neither conclusion follow

Question Number : 18 Question Id : 5459276482 Question Type : MCQ Option Shuffling : Yes Display Question Number : Yes
Single Line Question Option : No Option Orientation : Vertical

Correct Marks : 1 Wrong Marks : 0.25

नीचे दिए गए प्रश्न में कुछ कथन और उनके बाद उन कथनों पर आधारित कुछ निष्कर्ष दिए गए हैं। दिए गए कथनों को सही माने, चाहे उनमें सामान्य ज्ञात तथ्यों से भिन्नता हो। सभी निष्कर्ष पढ़ें और फिर निर्धारित करें कि दिए गए कौन से निष्कर्ष, दिए गए कथनों के आधार पर युक्तिसंगत हैं।

कथन:

- I. कुछ कलम मेज़ हैं।
- II. कुछ मेज़ कुर्सियाँ हैं।

निष्कर्ष:

- I. सभी मेज़ कलम हैं।
- II. कुछ कलम कुर्सियाँ हैं।

Options :

1. ✘ केवल निष्कर्ष I अनुसरण करता है।
2. ✘ केवल निष्कर्ष II अनुसरण करता है।
3. ✘ दोनों निष्कर्ष I तथा II अनुसरण करते हैं।
4. ✔ कोई भी निष्कर्ष अनुसरण नहीं करता है।

Question Number : 19 Question Id : 5459276483 Question Type : MCQ Option Shuffling : Yes Display Question Number : Yes
Single Line Question Option : No Option Orientation : Vertical

Correct Marks : 1 Wrong Marks : 0.25

In the following question below are given some statements followed by some conclusions based on those statements. Taking the given statements to be true even if they seem to be at variance from commonly known facts. Read all the conclusions and then decide which of the given conclusion logically follows the given statements.

Statements:

- I. All chairs are pens.
- II. Some pens are cups.
- III. All cups are pencils.

Conclusions:

- I. Some pencils are pens.
- II. All pencils are chairs.
- III. All chairs are cups.

Options :

1. ✘ Only conclusion II follow
2. ✔ Only conclusion I follow
3. ✘ Both conclusion II and III follow
4. ✘ Both conclusion I and II follow

Question Number : 19 Question Id : 5459276483 Question Type : MCQ Option Shuffling : Yes Display Question Number : Yes
Single Line Question Option : No Option Orientation : Vertical

Correct Marks : 1 Wrong Marks : 0.25

नीचे दिए गए प्रश्न में कुछ कथन और उनके बाद उन कथनों पर आधारित कुछ निष्कर्ष दिए गए हैं। दिए गए कथनों को सही माने, चाहे उनमें सामान्य ज्ञात तथ्यों से भिन्नता हो। सभी निष्कर्ष पढ़ें और फिर निर्धारित करें कि दिए गए कौन से निष्कर्ष, दिए गए कथनों के आधार पर युक्तिसंगत हैं।

कथन:

- I. सभी कुर्सियाँ कलम हैं।
- II. कुछ कलम कप हैं।
- III. सभी कप पेंसिल हैं।

निष्कर्ष:

- I. कुछ पेंसिल कलम हैं।
- II. सभी पेंसिल कुर्सियाँ हैं।
- III. सभी कुर्सियाँ कप हैं।

Options :

1. ✘ केवल निष्कर्ष II अनुसरण करता है।
2. ✔ केवल निष्कर्ष I अनुसरण करता है।
3. ✘ दोनों निष्कर्ष II तथा III अनुसरण करते हैं।
4. ✘ दोनों निष्कर्ष I तथा II अनुसरण करते हैं।

Question Number : 20 Question Id : 5459276484 Question Type : MCQ Option Shuffling : Yes Display Question Number : Yes
Single Line Question Option : No Option Orientation : Vertical

Correct Marks : 1 Wrong Marks : 0.25

If 'A' means '+', 'B' means '×', 'C' means '+' and 'D' means '-', then $12 A 4 B 8 D 2 B 27 A 9 = ?$

Options :

1. ✘ 24
2. ✘ 16
3. ✔ 18
4. ✘ 12

Question Number : 20 Question Id : 5459276484 Question Type : MCQ Option Shuffling : Yes Display Question Number : Yes
Single Line Question Option : No Option Orientation : Vertical

Correct Marks : 1 Wrong Marks : 0.25

यदि 'A' का अर्थ '÷', 'B' का अर्थ '×', 'C' का अर्थ '+' तथा 'D' का अर्थ '-' हो, तो $12 A 4 B 8 D 2 B 27 A 9 = ?$

Options :

1. ✘ 24
2. ✘ 16
3. ✔ 18
4. ✘ 12

Mental Ability2

Group Number :	2
Group Id :	545927322
Group Maximum Duration :	0
Group Minimum Duration :	0
Revisit allowed for view? :	No
Revisit allowed for edit? :	No
Break time:	0
Group Marks:	20
Revisit allowed for group Instructions? :	Yes
Maximum Instruction Time:	0
Minimum Instruction Time:	0

Mental Ability2

Section Id :	545927322
Section Number :	1
Section type :	Online
Mandatory or Optional:	Mandatory
Number of Questions:	20
Number of Questions to be attempted:	20
Section Marks:	20
Display Number Panel:	Yes
Group All Questions:	No

Sub-Section Number:	1
Sub-Section Id:	545927386
Question Shuffling Allowed :	Yes

Question Number : 21 Question Id : 5459276485 Question Type : MCQ Option Shuffling : Yes Display Question Number : Yes
Single Line Question Option : No Option Orientation : Vertical

Correct Marks : 1 Wrong Marks : 0.25

In the following question, four number pairs are given. The number on left side of (-) is related to the number of the right side of (-) with some Logic/Rule/Relation. Three are similar on basis of same Logic/Rule/Relation. Select the odd one out from the given alternatives.

Options :

1. ✘ 26 - 677
2. ✘ 38 - 1445
3. ✘ 64 - 4097
4. ✔ 52 - 2707

Question Number : 21 Question Id : 5459276485 Question Type : MCQ Option Shuffling : Yes Display Question Number : Yes
Single Line Question Option : No Option Orientation : Vertical

Correct Marks : 1 Wrong Marks : 0.25

नीचे दिए गए प्रश्न में, चार संख्या युग्म दिए गए हैं (-) के बायीं ओर दी गई संख्या (-) के दायीं ओर दी गई संख्या से किसी तर्क/नियम/संबंध से संबंधित है। तीन उसी एक तर्क/नियम/संबंध के आधार पर समान हैं। दिए गए विकल्पों में से विषम को चुनिए।

Options :

1. ✘ 26 - 677
2. ✘ 38 - 1445
3. ✘ 64 - 4097
4. ✔ 52 - 2707

Question Number : 22 Question Id : 5459276486 Question Type : MCQ Option Shuffling : Yes Display Question Number : Yes
Single Line Question Option : No Option Orientation : Vertical

Correct Marks : 1 Wrong Marks : 0.25

In the following question, select the missing number from the given series.

2, 8, 18, 32, 50, ?

Options :

1. ✘ 68
2. ✔ 72
3. ✘ 78
4. ✘ 84

Question Number : 22 Question Id : 5459276486 Question Type : MCQ Option Shuffling : Yes Display Question Number : Yes
Single Line Question Option : No Option Orientation : Vertical

Correct Marks : 1 Wrong Marks : 0.25

निम्नलिखित प्रश्न में दी गई श्रृंखला में से लुप्त अंक ज्ञात कीजिए।

2, 8, 18, 32, 50, ?

Options :

1. ✘ 68
2. ✔ 72
3. ✘ 78
4. ✘ 84

Question Number : 23 Question Id : 5459276487 Question Type : MCQ Option Shuffling : Yes Display Question Number : Yes
Single Line Question Option : No Option Orientation : Vertical

Correct Marks : 1 Wrong Marks : 0.25

In the following question, select the related number from the given alternatives.

134 : 512 :: 247 : ?

Options :

1. ✘ 1479
2. ✔ 2197
3. ✘ 2395
4. ✘ 1593

Question Number : 23 Question Id : 5459276487 Question Type : MCQ Option Shuffling : Yes Display Question Number : Yes
Single Line Question Option : No Option Orientation : Vertical

Correct Marks : 1 Wrong Marks : 0.25

निम्नलिखित प्रश्न में दिए गए विकल्पों में से संबंधित संख्या को चुनिए।

134 : 512 :: 247 : ?

Options :

1. ✘ 1479
2. ✔ 2197
3. ✘ 2395
4. ✘ 1593

Question Number : 24 Question Id : 5459276488 Question Type : MCQ Option Shuffling : Yes Display Question Number : Yes
Single Line Question Option : No Option Orientation : Vertical

Correct Marks : 1 Wrong Marks : 0.25

In the following question, select the missing number from the given series.

4, 10, 33, 136, ?

Options :

1. ✘ 578
2. ✘ 475
3. ✘ 332
4. ✔ 685

Question Number : 24 Question Id : 5459276488 Question Type : MCQ Option Shuffling : Yes Display Question Number : Yes
Single Line Question Option : No Option Orientation : Vertical

Correct Marks : 1 Wrong Marks : 0.25

निम्नलिखित प्रश्न में दी गई श्रृंखला में से लुप्त अंक ज्ञात कीजिए।

4, 10, 33, 136, ?

Options :

1. ✘ 578
2. ✘ 475
3. ✘ 332
4. ✔ 685

Question Number : 25 Question Id : 5459276489 Question Type : MCQ Option Shuffling : Yes Display Question Number : Yes
Single Line Question Option : No Option Orientation : Vertical

Correct Marks : 1 Wrong Marks : 0.25

If 'P' means '+', 'Q' means '-', 'R' means 'X' and 'S' means '÷', then $17 Q 3 R 48 S 16 P 12 Q 18 = ?$

Options :

1. ✘ 8
2. ✔ 2
3. ✘ 12
4. ✘ 1

Question Number : 25 Question Id : 5459276489 Question Type : MCQ Option Shuffling : Yes Display Question Number : Yes
Single Line Question Option : No Option Orientation : Vertical

Correct Marks : 1 Wrong Marks : 0.25

यदि 'P' का अर्थ '+', 'Q' का अर्थ '-', 'R' का अर्थ 'X' तथा 'S' का अर्थ '÷' हो, तो $17 Q 3 R 48 S 16 P 12 Q 18 = ?$

Options :

1. ✘ 8
2. ✔ 2

3. ✖ 12

4. ✖ 1

Question Number : 26 Question Id : 5459276490 Question Type : MCQ Option Shuffling : Yes Display Question Number : Yes
Single Line Question Option : No Option Orientation : Vertical

Correct Marks : 1 Wrong Marks : 0.25

In the following question, select the number which can be placed at the sign of question mark (?) from the given alternatives.

10	4
8	120

6	25
16	246

15	40
12	?

Options :

1. ✖ 360

2. ✔ 780

3. ✖ 420

4. ✖ 860

Question Number : 26 Question Id : 5459276490 Question Type : MCQ Option Shuffling : Yes Display Question Number : Yes
Single Line Question Option : No Option Orientation : Vertical

Correct Marks : 1 Wrong Marks : 0.25

निम्नलिखित प्रश्न में दिए गए विकल्पों में से प्रश्न चिन्ह (?) के स्थान पर आने वाली संख्या को चुनिए

10	4
8	120

6	25
16	246

15	40
12	?

Options :

1. ✖ 360

2. ✔ 780

3. ✖ 420

4. ✖ 860

Question Number : 27 Question Id : 5459276491 Question Type : MCQ Option Shuffling : Yes Display Question Number : Yes
Single Line Question Option : No Option Orientation : Vertical

Correct Marks : 1 Wrong Marks : 0.25

In the following question, select the related number from the given alternatives.

426 : 576 :: 378 : ?

Options :

1. ✖ 632

2. ✖ 778

3. ✔ 3024

4. ✖ 2996

Question Number : 27 Question Id : 5459276491 Question Type : MCQ Option Shuffling : Yes Display Question Number : Yes
Single Line Question Option : No Option Orientation : Vertical

Correct Marks : 1 Wrong Marks : 0.25

निम्नलिखित प्रश्न में दिए गए विकल्पों में से संबंधित संख्या को चुनिए

426 : 576 :: 378 : ?

Options :

- ✘ 632
- ✘ 778
- ✔ 3024
- ✘ 2996

Question Number : 28 Question Id : 5459276492 Question Type : MCQ Option Shuffling : Yes Display Question Number : Yes
Single Line Question Option : No Option Orientation : Vertical

Correct Marks : 1 Wrong Marks : 0.25

In the following question, four number pairs are given. The number on left side of (-) is related to the number of the right side of (-) with some Logic/Rule/Relation. Three are similar on basis of same Logic/Rule/Relation. Select the odd one out from the given alternatives.

Options :

- ✘ 12 - 1728
- ✘ 27 - 19683
- ✘ 36 - 46656
- ✔ 21 - 9461

Question Number : 28 Question Id : 5459276492 Question Type : MCQ Option Shuffling : Yes Display Question Number : Yes
Single Line Question Option : No Option Orientation : Vertical

Correct Marks : 1 Wrong Marks : 0.25

नीचे दिए गए प्रश्न में, चार संख्या युग्म दिए गए हैं (-) के बायीं ओर दी गई संख्या (-) के दायीं ओर दी गई संख्या से किसी तर्क/नियम/संबंध से संबंधित है। तीन उसी एक तर्क/नियम/संबंध के आधार पर समान हैं दिए गए विकल्पों में से विषम को चुनिए।

Options :

- ✘ 12 - 1728
- ✘ 27 - 19683
- ✘ 36 - 46656
- ✔ 21 - 9461

Question Number : 29 Question Id : 5459276493 Question Type : MCQ Option Shuffling : Yes Display Question Number : Yes
Single Line Question Option : No Option Orientation : Vertical

Correct Marks : 1 Wrong Marks : 0.25

यदि $A * B = (A + B)(A - B)$ है, तो $(12 * 7) * (11 * 8) = ?$

Options :

- ✘ 5876
- ✘ 3989
- ✘ 4376
- ✔ 5776

Question Number : 29 Question Id : 5459276493 Question Type : MCQ Option Shuffling : Yes Display Question Number : Yes
Single Line Question Option : No Option Orientation : Vertical

Correct Marks : 1 Wrong Marks : 0.25

If $A * B = (A + B)(A - B)$, then $(12 * 7) * (11 * 8) = ?$

Options :

- ✘ 5876
- ✘ 3989
- ✘ 4376
- ✔ 5776

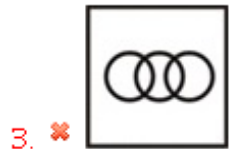
Question Number : 30 Question Id : 5459276494 Question Type : MCQ Option Shuffling : Yes Display Question Number : Yes
Single Line Question Option : No Option Orientation : Vertical

Correct Marks : 1 Wrong Marks : 0.25

Identify the diagram that best represents the relationship among the given classes.

Body, Eye, Retina

Options :




Question Number : 30 Question Id : 5459276494 Question Type : MCQ Option Shuffling : Yes Display Question Number : Yes
Single Line Question Option : No Option Orientation : Vertical

Correct Marks : 1 Wrong Marks : 0.25

वह आरेख चुनिए जो नीचे दिए गए वर्गों के बीच के संबंध का सही निरूपण करता है।

शरीर, आँख, रेटिना / नेत्रपटल

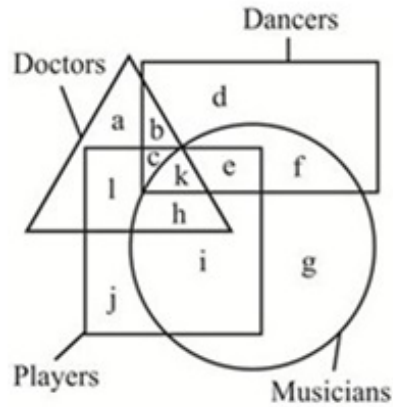
Options :



Question Number : 31 Question Id : 5459276495 Question Type : MCQ Option Shuffling : Yes Display Question Number : Yes
Single Line Question Option : No Option Orientation : Vertical

Correct Marks : 1 Wrong Marks : 0.25

In the given figure, Doctors who are musician and players but not dancers are indicated by which letter.



Options :

1. ✘ l
2. ✘ j
3. ✔ h
4. ✘ i

Question Number : 31 Question Id : 5459276495 Question Type : MCQ Option Shuffling : Yes Display Question Number : Yes
Single Line Question Option : No Option Orientation : Vertical

Correct Marks : 1 Wrong Marks : 0.25

दी गई आकृति में जो डॉक्टर संगीतकार और खिलाड़ी है लेकिन नर्तक नहीं, उन्हें किस अक्षर से दर्शाया गया है?



Options :

1. ✘ l
2. ✘ j
3. ✔ h
4. ✘ i

Question Number : 32 Question Id : 5459276496 Question Type : MCQ Option Shuffling : Yes Display Question Number : Yes
Single Line Question Option : No Option Orientation : Vertical

Correct Marks : 1 Wrong Marks : 0.25

Sunil goes 12 km towards east and then he goes 10 km towards north. He again goes 12 km towards east. What is the straight line distance between final point and initial point?

Options :

1. ✔ 26 km

2. ✘ 28 km
3. ✘ 24 km
4. ✘ 20 km

Question Number : 32 Question Id : 5459276496 Question Type : MCQ Option Shuffling : Yes Display Question Number : Yes
Single Line Question Option : No Option Orientation : Vertical

Correct Marks : 1 Wrong Marks : 0.25

सुनील 12 कि.मी. पूर्व की ओर जाता है और फिर वह 10 कि.मी. उत्तर की ओर जाता है वह पुनः 12 कि.मी. पूर्व की ओर जाता है अंतिम बिंदु तथा आरंभिक बिंदु के मध्य सीधी रेखा दूरी क्या है?

Options :

1. ✔ 26 कि.मी.
2. ✘ 28 कि.मी.
3. ✘ 24 कि.मी.
4. ✘ 20 कि.मी.

Question Number : 33 Question Id : 5459276497 Question Type : MCQ Option Shuffling : Yes Display Question Number : Yes
Single Line Question Option : No Option Orientation : Vertical

Correct Marks : 1 Wrong Marks : 0.25

Shashwat goes 15 metres towards south from a point P and then after turning to left he goes 8 metres. He again turns left and goes 30 metres. How far and in which direction is he now from his starting point?

Options :

1. ✘ 15 metres, South-east
2. ✔ 17 metres, North-east
3. ✘ 17 metres, North-west
4. ✘ 15 metres, North-east

Question Number : 33 Question Id : 5459276497 Question Type : MCQ Option Shuffling : Yes Display Question Number : Yes
Single Line Question Option : No Option Orientation : Vertical

Correct Marks : 1 Wrong Marks : 0.25

शाश्वत एक बिंदु P से 15 मीटर दक्षिण की ओर जाता है और फिर बाईं ओर मुड़कर वह 8 मीटर जाता है वह पुनः बायें मुड़ता है तथा 30 मीटर जाता है अब वह अपने प्रारंभिक बिंदु से कितनी दूर और किस दिशा में है?

Options :

1. ✘ 15 मीटर, दक्षिण-पूर्व
2. ✔ 17 मीटर, उत्तर-पूर्व
3. ✘ 17 मीटर, उत्तर-पश्चिम
4. ✘ 15 मीटर, उत्तर-पूर्व

Question Number : 34 Question Id : 5459276498 Question Type : MCQ Option Shuffling : Yes Display Question Number : Yes
Single Line Question Option : No Option Orientation : Vertical

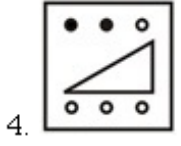
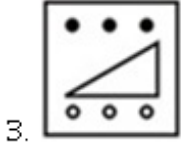
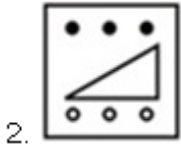
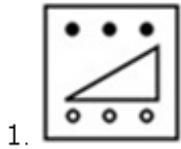
Correct Marks : 1 Wrong Marks : 0.25

In the following question, select the figure which can be placed at the sign of question mark (?) from the given alternatives.



Note: For this question, discrepancy is found in question/answer. So, this question is ignored for all candidates.

Options :



Question Number : 34 Question Id : 5459276498 Question Type : MCQ Option Shuffling : Yes Display Question Number : Yes
Single Line Question Option : No Option Orientation : Vertical

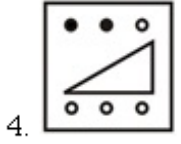
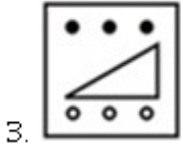
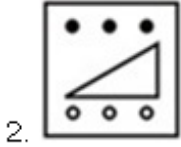
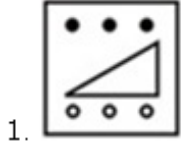
Correct Marks : 1 Wrong Marks : 0.25

निम्नलिखित प्रश्न में दिए गए विकल्पों में से प्रश्न चिन्ह (?) के स्थान पर आने वाली आकृति को चुनिए।



Note: For this question, discrepancy is found in question/answer. So, this question is ignored for all candidates.

Options :



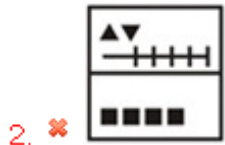
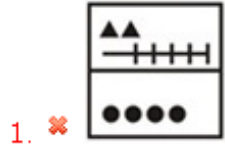
Question Number : 35 Question Id : 5459276499 Question Type : MCQ Option Shuffling : Yes Display Question Number : Yes
 Single Line Question Option : No Option Orientation : Vertical

Correct Marks : 1 Wrong Marks : 0.25

In the following question, select the figure which can be placed at the sign of question mark (?) from the given alternatives.



Options :



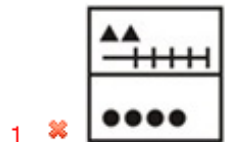
Question Number : 35 Question Id : 5459276499 Question Type : MCQ Option Shuffling : Yes Display Question Number : Yes
 Single Line Question Option : No Option Orientation : Vertical

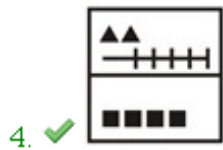
Correct Marks : 1 Wrong Marks : 0.25

निम्नलिखित प्रश्न में दिए गए विकल्पों में से प्रश्न चिन्ह (?) के स्थान पर आने वाली आकृति को चुनिए।



Options :





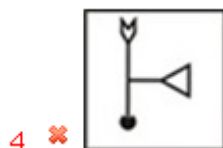
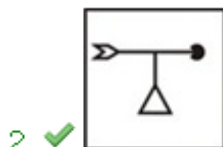
Question Number : 36 Question Id : 5459276500 Question Type : MCQ Option Shuffling : Yes Display Question Number : Yes
Single Line Question Option : No Option Orientation : Vertical

Correct Marks : 1 Wrong Marks : 0.25

In the following question, select the wrong figure from the given series.



Options :



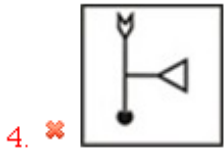
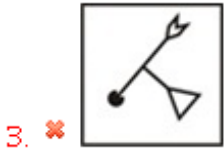
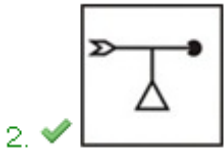
Question Number : 36 Question Id : 5459276500 Question Type : MCQ Option Shuffling : Yes Display Question Number : Yes
Single Line Question Option : No Option Orientation : Vertical

Correct Marks : 1 Wrong Marks : 0.25

निम्नलिखित प्रश्न में, दी गयी श्रृंखला में से गलत आकृति को चुनिए।



Options :



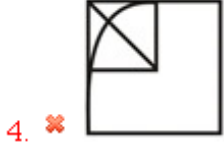
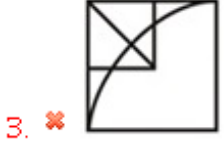
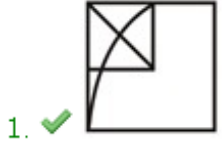
Question Number : 37 Question Id : 5459276501 Question Type : MCQ Option Shuffling : Yes Display Question Number : Yes Single Line Question Option : No Option Orientation : Vertical

Correct Marks : 1 Wrong Marks : 0.25

Which answer figure will complete the pattern in the question figure?



Options :



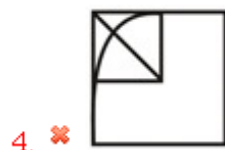
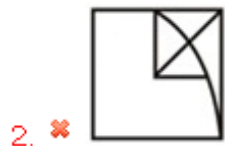
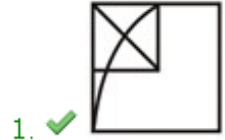
Question Number : 37 Question Id : 5459276501 Question Type : MCQ Option Shuffling : Yes Display Question Number : Yes
Single Line Question Option : No Option Orientation : Vertical

Correct Marks : 1 Wrong Marks : 0.25

कौन सी उत्तर आकृति प्रश्न आकृति के प्रतिरूप को पूरा करेगी?



Options :



Question Number : 38 Question Id : 5459276502 Question Type : MCQ Option Shuffling : Yes Display Question Number : Yes
Single Line Question Option : No Option Orientation : Vertical

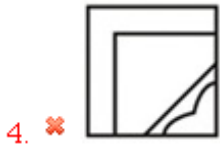
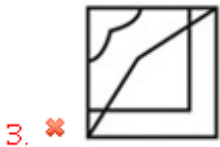
Correct Marks : 1 Wrong Marks : 0.25

Which answer figure will complete the pattern in the question figure?



Options :





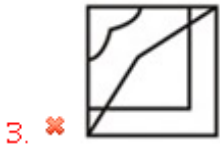
Question Number : 38 Question Id : 5459276502 Question Type : MCQ Option Shuffling : Yes Display Question Number : Yes
Single Line Question Option : No Option Orientation : Vertical

Correct Marks : 1 Wrong Marks : 0.25

कौन सी उत्तर आकृति प्रश्न आकृति के प्रतिरूप को पूरा करेगी?



Options :



Question Number : 39 Question Id : 5459276503 Question Type : MCQ Option Shuffling : Yes Display Question Number : Yes
Single Line Question Option : No Option Orientation : Vertical

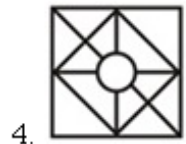
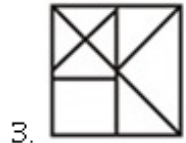
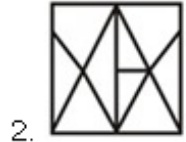
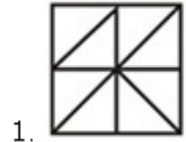
Correct Marks : 1 Wrong Marks : 0.25

From the given answer figures, select the one in which the question figure is hidden/embedded.



Note: For this question, discrepancy is found in question/answer. So, this question is ignored for all candidates.

Options :



Question Number : 39 Question Id : 5459276503 Question Type : MCQ Option Shuffling : Yes Display Question Number : Yes
Single Line Question Option : No Option Orientation : Vertical

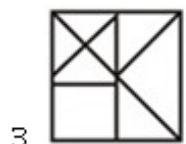
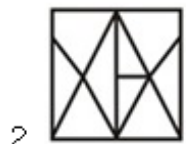
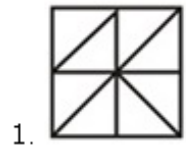
Correct Marks : 1 Wrong Marks : 0.25

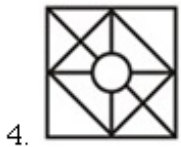
दी गई उत्तर आकृतियों में से उस उत्तर आकृति को चुनिए जिस में प्रश्न आकृति निहित है



Note: For this question, discrepancy is found in question/answer. So, this question is ignored for all candidates.

Options :





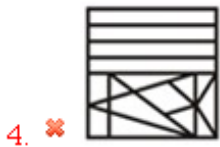
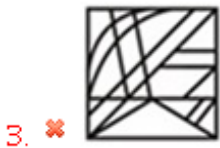
Question Number : 40 Question Id : 5459276504 Question Type : MCQ Option Shuffling : Yes Display Question Number : Yes
Single Line Question Option : No Option Orientation : Vertical

Correct Marks : 1 Wrong Marks : 0.25

From the given answer figures, select the one in which the question figure is hidden/embedded.



Options :



Question Number : 40 Question Id : 5459276504 Question Type : MCQ Option Shuffling : Yes Display Question Number : Yes
Single Line Question Option : No Option Orientation : Vertical

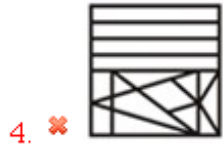
Correct Marks : 1 Wrong Marks : 0.25

दी गई उत्तर आकृतियों में से उस उत्तर आकृति को चुनिए जिस में प्रश्न आकृति निहित है



Options :





General Awareness1

Group Number :	3
Group Id :	545927323
Group Maximum Duration :	0
Group Minimum Duration :	0
Revisit allowed for view? :	No
Revisit allowed for edit? :	No
Break time:	0
Group Marks:	20
Revisit allowed for group Instructions? :	Yes
Maximum Instruction Time:	0
Minimum Instruction Time:	0

General Awareness1

Section Id :	545927323
Section Number :	1
Section type :	Online
Mandatory or Optional:	Mandatory
Number of Questions:	20
Number of Questions to be attempted:	20
Section Marks:	20
Display Number Panel:	Yes
Group All Questions:	No

Sub-Section Number:	1
Sub-Section Id:	545927387
Question Shuffling Allowed :	Yes

Question Number : 41 Question Id : 5459276505 Question Type : MCQ Option Shuffling : Yes Display Question Number : Yes Single Line Question Option : No Option Orientation : Vertical

Correct Marks : 1 Wrong Marks : 0.25

Jawara dance is related to _____ state.

Options :

1. ✘ Andhra Pradesh
2. ✘ Maharashtra
3. ✔ Madhya Pradesh
4. ✘ Karnataka

Question Number : 41 Question Id : 5459276505 Question Type : MCQ Option Shuffling : Yes Display Question Number : Yes
Single Line Question Option : No Option Orientation : Vertical

Correct Marks : 1 Wrong Marks : 0.25

जवारा नृत्य _____ राज्य से जुड़ा हुआ है

Options :

1. ✘ आंध्र प्रदेश
2. ✘ महाराष्ट्र
3. ✔ मध्य प्रदेश
4. ✘ कर्नाटक

Question Number : 42 Question Id : 5459276506 Question Type : MCQ Option Shuffling : Yes Display Question Number : Yes
Single Line Question Option : No Option Orientation : Vertical

Correct Marks : 1 Wrong Marks : 0.25

The Hill Palace Museum is located in _____.

Options :

1. ✔ Kerala
2. ✘ Maharastra
3. ✘ Uttarakhand
4. ✘ Himachal Pradesh

Question Number : 42 Question Id : 5459276506 Question Type : MCQ Option Shuffling : Yes Display Question Number : Yes
Single Line Question Option : No Option Orientation : Vertical

Correct Marks : 1 Wrong Marks : 0.25

हिल पैलेस संग्रहालय _____ में स्थित है

Options :

1. ✔ केरल
2. ✘ महाराष्ट्र
3. ✘ उत्तराखंड
4. ✘ हिमाचल प्रदेश

Question Number : 43 Question Id : 5459276507 Question Type : MCQ Option Shuffling : Yes Display Question Number : Yes
Single Line Question Option : No Option Orientation : Vertical

Correct Marks : 1 Wrong Marks : 0.25

Ambubachi mela is a festival of which state?

Options :

1. ✘ Gujarat
2. ✔ Assam
3. ✘ Sikkim
4. ✘ Mizoram

Question Number : 43 Question Id : 5459276507 Question Type : MCQ Option Shuffling : Yes Display Question Number : Yes
Single Line Question Option : No Option Orientation : Vertical

Correct Marks : 1 Wrong Marks : 0.25

अंबुबाशी मेला किस राज्य का एक त्योहार है?

Options :

- ✘ गुजरात
- ✔ असम
- ✘ सिक्किम
- ✘ मिजोरम

Question Number : 44 Question Id : 5459276508 Question Type : MCQ Option Shuffling : Yes Display Question Number : Yes
Single Line Question Option : No Option Orientation : Vertical

Correct Marks : 1 Wrong Marks : 0.25

Which of the following pair of Musician - Instrument is NOT correct?

Options :

- ✘ Ravi Shankar - Sitar
- ✔ Shiv Kumar Sharma - Bansuri
- ✘ Zakir Hussain - Tabla
- ✘ Bismillah Khan - Shehnai

Question Number : 44 Question Id : 5459276508 Question Type : MCQ Option Shuffling : Yes Display Question Number : Yes
Single Line Question Option : No Option Orientation : Vertical

Correct Marks : 1 Wrong Marks : 0.25

निम्नलिखित में से संगीतकार - वाद्ययंत्र का कौन सा युग्म सही नहीं है?

Options :

- ✘ रविशंकर - सितार
- ✔ शिव कुमार शर्मा - बांसुरी
- ✘ ज़ाकिर हुसैन - तबला
- ✘ बिस्मिल्ला खाँ - शहनाई

Question Number : 45 Question Id : 5459276509 Question Type : MCQ Option Shuffling : Yes Display Question Number : Yes
Single Line Question Option : No Option Orientation : Vertical

Correct Marks : 1 Wrong Marks : 0.25

_____ is the rate of interest commercial banks have to pay to RBI if they borrow money from it in case of shortage of reserves.

Options :

- ✔ Bank Rate
- ✘ Cash Reserve Ratio
- ✘ Statutory Liquidity Ratio
- ✘ Money Rate

Question Number : 45 Question Id : 5459276509 Question Type : MCQ Option Shuffling : Yes Display Question Number : Yes
Single Line Question Option : No Option Orientation : Vertical

Correct Marks : 1 Wrong Marks : 0.25

_____ वह ब्याज दर है जो आरक्षित निधि में कमी होने पर भारतीय रिज़र्व बैंक से पैसे लेने पर वाणिज्यिक बैंकों को भारतीय रिज़र्व बैंक को भुगतान करना पड़ता है।

Options :

- ✔ बैंक दर
- ✘ आरक्षित नकदी निधि अनुपात
- ✘ सांविधिक चलनिधि अनुपात
- ✘ मौद्रिक दर

Question Number : 46 Question Id : 5459276510 Question Type : MCQ Option Shuffling : Yes Display Question Number : Yes
Single Line Question Option : No Option Orientation : Vertical

Correct Marks : 1 Wrong Marks : 0.25

केंद्रीय बजट 2019 में, सरकार ने देश में स्टार्ट-अप को प्रोत्साहित करने के लिए _____ में ढील दी।

Options :

- ✘ कॉर्पोरेट कर
- ✘ विलासिता कर
- ✘ मनोरंजन कर
- ✔ एंजल कर

Question Number : 46 Question Id : 5459276510 Question Type : MCQ Option Shuffling : Yes Display Question Number : Yes
Single Line Question Option : No Option Orientation : Vertical

Correct Marks : 1 Wrong Marks : 0.25

In Union Budget 2019, the government eased _____ to encourage start-ups in the country.

Options :

- ✘ Corporate tax
- ✘ Luxury tax
- ✘ Entertainment tax
- ✔ Angel Tax

Question Number : 47 Question Id : 5459276511 Question Type : MCQ Option Shuffling : Yes Display Question Number : Yes
Single Line Question Option : No Option Orientation : Vertical

Correct Marks : 1 Wrong Marks : 0.25

Fiscal Policy creates a surplus when total _____.

Options :

- ✔ Receipts exceed expenditure
- ✘ Expenditure exceeds receipts
- ✘ Expenditure and total receipts remain same
- ✘ Receipts and total expenditure become too less

Question Number : 47 Question Id : 5459276511 Question Type : MCQ Option Shuffling : Yes Display Question Number : Yes
Single Line Question Option : No Option Orientation : Vertical

Correct Marks : 1 Wrong Marks : 0.25

कुल _____ होने पर राजकोषीय नीति एक अधिशेष बनाती है।

Options :

- ✔ प्राप्तियाँ व्यय से अधिक
- ✘ व्यय प्राप्तियों से अधिक
- ✘ व्यय और कुल प्राप्तियाँ समान
- ✘ प्राप्तियाँ और कुल व्यय बहुत कम

Question Number : 48 Question Id : 5459276512 Question Type : MCQ Option Shuffling : Yes Display Question Number : Yes
Single Line Question Option : No Option Orientation : Vertical

Correct Marks : 1 Wrong Marks : 0.25

Orange juice contains _____ acid due to which it tastes sour.

Options :

- ✘ acetic
- ✘ formic
- ✔ citric
- ✘ oxalic

Question Number : 48 Question Id : 5459276512 Question Type : MCQ Option Shuffling : Yes Display Question Number : Yes
Single Line Question Option : No Option Orientation : Vertical

Correct Marks : 1 Wrong Marks : 0.25

संतरे के रस में _____ अम्ल होता है जिसके कारण इसका स्वाद खट्टा होता है।

Options :

1. ✘ एसिटिक
2. ✘ फार्मिक
3. ✔ साइट्रिक
4. ✘ ऑक्सालिक

Question Number : 49 Question Id : 5459276513 Question Type : MCQ Option Shuffling : Yes Display Question Number : Yes
Single Line Question Option : No Option Orientation : Vertical

Correct Marks : 1 Wrong Marks : 0.25

Choose the correct statement.

- I. Rayon is also known as Artificial silk.
- II. Rayon and silk are natural fibres.
- III. Rayon and Nylon are man - made fibres.
- IV. Nylon is a man - made fibre.

Options :

1. ✘ I and II
2. ✘ I and III
3. ✔ I, III and IV
4. ✘ Only IV

Question Number : 49 Question Id : 5459276513 Question Type : MCQ Option Shuffling : Yes Display Question Number : Yes
Single Line Question Option : No Option Orientation : Vertical

Correct Marks : 1 Wrong Marks : 0.25

सही कथन चुनें।

- I. रेयॉन को कृत्रिम रेशम के रूप में भी जाना जाता है।
- II. रेयॉन और रेशम प्राकृतिक रेशे हैं।
- III. रेयॉन और नाइलॉन मानव निर्मित रेशे हैं।
- IV. नाइलॉन एक मानव निर्मित रेशा है।

Options :

1. ✘ I तथा II
2. ✘ I तथा III
3. ✔ I, III तथा IV
4. ✘ केवल IV

Question Number : 50 Question Id : 5459276514 Question Type : MCQ Option Shuffling : Yes Display Question Number : Yes
Single Line Question Option : No Option Orientation : Vertical

Correct Marks : 1 Wrong Marks : 0.25

Unit is _____.

Options :

1. ✘ the unknown quantity which is measured
2. ✔ the unknown quantity with respect to which something is measured
3. ✘ method of measurement
4. ✘ amount of measurement

Question Number : 50 Question Id : 5459276514 Question Type : MCQ Option Shuffling : Yes Display Question Number : Yes
Single Line Question Option : No Option Orientation : Vertical

Correct Marks : 1 Wrong Marks : 0.25

मात्रक एक _____।

Options :

1. ✘ अज्ञात राशि है जिसे मापा जाता है
2. ✔ अज्ञात राशि है जिसके संबंध में कुछ मापा जाता है
3. ✘ मापन की विधि
4. ✘ मापन की मात्रा है

Question Number : 51 Question Id : 5459276515 Question Type : MCQ Option Shuffling : Yes Display Question Number : Yes
Single Line Question Option : No Option Orientation : Vertical

Correct Marks : 1 Wrong Marks : 0.25

Which of the following is formed by mixing iron with carbon, nickel and zinc?

Options :

1. ✘ German silver
2. ✔ Stainless steel
3. ✘ Steel
4. ✘ Bronze

Question Number : 51 Question Id : 5459276515 Question Type : MCQ Option Shuffling : Yes Display Question Number : Yes
Single Line Question Option : No Option Orientation : Vertical

Correct Marks : 1 Wrong Marks : 0.25

निम्नलिखित में से क्या लोहे को कार्बन, निकेल, और जस्ते के साथ मिलाकर बनता है?

Options :

1. ✘ जर्मन सिल्वर
2. ✔ स्टेनलेस स्टील
3. ✘ स्टील
4. ✘ कांस्य

Question Number : 52 Question Id : 5459276516 Question Type : MCQ Option Shuffling : Yes Display Question Number : Yes
Single Line Question Option : No Option Orientation : Vertical

Correct Marks : 1 Wrong Marks : 0.25

An _____ is a solution in which the suspended particles are liquid droplets and the continuous phase is also a liquid. (The two phases are immiscible)

Options :

1. ✘ Agglomerate
2. ✘ Aerosol
3. ✘ Gel
4. ✔ Emulsion

Question Number : 52 Question Id : 5459276516 Question Type : MCQ Option Shuffling : Yes Display Question Number : Yes
Single Line Question Option : No Option Orientation : Vertical

Correct Marks : 1 Wrong Marks : 0.25

_____ एक विलयन है जिसमें निलंबित कण द्रव बूंदें हैं, और संतत प्रावस्था भी एक द्रव है। (दोनों प्रावस्थाएँ अमिश्रणीय हैं)

Options :

1. ✘ संज्वालाश्म (अग्लोमेरेट)
2. ✘ ऐरोसोल
3. ✘ जेल

4. ✓ पायस (इमल्शन)

Question Number : 53 Question Id : 5459276517 Question Type : MCQ Option Shuffling : Yes Display Question Number : Yes
Single Line Question Option : No Option Orientation : Vertical

Correct Marks : 1 Wrong Marks : 0.25

Which of the following organisms has a Prokaryotic cell?

Options :

1. ✗ Virus
2. ✗ Protozoa
3. ✓ Blue green algae
4. ✗ Rhizopus

Question Number : 53 Question Id : 5459276517 Question Type : MCQ Option Shuffling : Yes Display Question Number : Yes
Single Line Question Option : No Option Orientation : Vertical

Correct Marks : 1 Wrong Marks : 0.25

निम्नलिखित में से किस जीव में प्रोकेरियोटिक कोशिका होती है?

Options :

1. ✗ विषाणु
2. ✗ एककोशी (प्रोटोजोआ)
3. ✓ नीले - हरे शैवाल
4. ✗ राईज़ोपस

Question Number : 54 Question Id : 5459276518 Question Type : MCQ Option Shuffling : Yes Display Question Number : Yes
Single Line Question Option : No Option Orientation : Vertical

Correct Marks : 1 Wrong Marks : 0.25

Bryophyllum, reproduces by _____.

Options :

1. ✓ vegetative propagation
2. ✗ budding
3. ✗ fragmentation
4. ✗ spore formation

Question Number : 54 Question Id : 5459276518 Question Type : MCQ Option Shuffling : Yes Display Question Number : Yes
Single Line Question Option : No Option Orientation : Vertical

Correct Marks : 1 Wrong Marks : 0.25

ब्रायोफिलम _____ से जनन करता है।

Options :

1. ✓ कायिक प्रवर्धन
2. ✗ मुकुलन
3. ✗ खंडन
4. ✗ बिजाणु समासंघ

Question Number : 55 Question Id : 5459276519 Question Type : MCQ Option Shuffling : Yes Display Question Number : Yes
Single Line Question Option : No Option Orientation : Vertical

Correct Marks : 1 Wrong Marks : 0.25

Endocrine glands are _____.

- I. Duct glands
- II. Ductless glands

Options :

- ✘ Only I
- ✔ Only II
- ✘ Both I and II
- ✘ Neither I nor II

Question Number : 55 Question Id : 5459276519 Question Type : MCQ Option Shuffling : Yes Display Question Number : Yes
Single Line Question Option : No Option Orientation : Vertical

Correct Marks : 1 Wrong Marks : 0.25

अंतःसावी ग्रंथियाँ _____ होते हैं।

- I. नलिका ग्रंथियाँ
- II. नलिका - विहीन ग्रंथियाँ

Options :

- ✘ केवल I
- ✔ केवल II
- ✘ I तथा II दोनों
- ✘ ना तो I ना तो II

Question Number : 56 Question Id : 5459276520 Question Type : MCQ Option Shuffling : Yes Display Question Number : Yes
Single Line Question Option : No Option Orientation : Vertical

Correct Marks : 1 Wrong Marks : 0.25

Which of the following is also called 'Slash and Burn' agriculture?

Options :

- ✘ Plantation Agriculture
- ✘ Primitive Subsistence Agriculture
- ✘ Intensive Subsistence Agriculture
- ✔ Shifting Cultivation

Question Number : 56 Question Id : 5459276520 Question Type : MCQ Option Shuffling : Yes Display Question Number : Yes
Single Line Question Option : No Option Orientation : Vertical

Correct Marks : 1 Wrong Marks : 0.25

निम्नलिखित में से किसे 'स्लैश और बर्न' कृषि भी कहा जाता है?

Options :

- ✘ रोपण कृषि
- ✘ आदिम जीविका कृषि
- ✘ गहन जीविका कृषि
- ✔ स्थानांतरी कृषि

Question Number : 57 Question Id : 5459276521 Question Type : MCQ Option Shuffling : Yes Display Question Number : Yes
Single Line Question Option : No Option Orientation : Vertical

Correct Marks : 1 Wrong Marks : 0.25

Migrants who move into a new place are called _____.

Options :

- ✘ Emigrants
- ✔ Immigrants
- ✘ Displaced
- ✘ Sheltered

Question Number : 57 Question Id : 5459276521 Question Type : MCQ Option Shuffling : Yes Display Question Number : Yes
Single Line Question Option : No Option Orientation : Vertical

Correct Marks : 1 Wrong Marks : 0.25

नए स्थान पर जाने वाले प्रवासियों को _____ कहा जाता है।

Options :

1. ✘ उत्प्रवासी
2. ✔ आप्रवासी
3. ✘ विस्थापित
4. ✘ आसरित

Question Number : 58 Question Id : 5459276522 Question Type : MCQ Option Shuffling : Yes Display Question Number : Yes
Single Line Question Option : No Option Orientation : Vertical

Correct Marks : 1 Wrong Marks : 0.25

A layer of soil which lies more or less parallel to the surface and has fairly distinctive soil properties is known as _____.

Options :

1. ✔ Soil Horizon
2. ✘ Bedrock
3. ✘ Humus
4. ✘ Exfoliation

Question Number : 58 Question Id : 5459276522 Question Type : MCQ Option Shuffling : Yes Display Question Number : Yes
Single Line Question Option : No Option Orientation : Vertical

Correct Marks : 1 Wrong Marks : 0.25

मिट्टी की एक परत जो लगभग सतह के समानांतर होती है और इसमें मृदा के विशिष्ट गुण होते हैं उसे _____ के नाम से जाना जाता है।

Options :

1. ✔ मृदा संस्तर
2. ✘ बेडरॉक
3. ✘ ह्यूमस
4. ✘ अपशल्कन

Question Number : 59 Question Id : 5459276523 Question Type : MCQ Option Shuffling : Yes Display Question Number : Yes
Single Line Question Option : No Option Orientation : Vertical

Correct Marks : 1 Wrong Marks : 0.25

Which of the following is NOT a residual mountain?

Options :

1. ✘ Aravallis
2. ✔ Himalayas
3. ✘ Rajmahal Hills
4. ✘ Nilgiri Hills

Question Number : 59 Question Id : 5459276523 Question Type : MCQ Option Shuffling : Yes Display Question Number : Yes
Single Line Question Option : No Option Orientation : Vertical

Correct Marks : 1 Wrong Marks : 0.25

निम्नलिखित में से कौन सा अवशिष्ट पर्वत नहीं है?

Options :

1. ✘ अरावली
2. ✔ हिमालय
3. ✘ राजमहल पहाड़ियाँ

4. ✖ नीलगिरी पहाड़ियाँ

Question Number : 60 Question Id : 5459276524 Question Type : MCQ Option Shuffling : Yes Display Question Number : Yes
Single Line Question Option : No Option Orientation : Vertical

Correct Marks : 1 Wrong Marks : 0.25

Which of the following state shares border with Nepal?

Options :

1. ✖ Tripura
2. ✖ Gujarat
3. ✔ Uttar Pradesh
4. ✖ Telangana

Question Number : 60 Question Id : 5459276524 Question Type : MCQ Option Shuffling : Yes Display Question Number : Yes
Single Line Question Option : No Option Orientation : Vertical

Correct Marks : 1 Wrong Marks : 0.25

निम्नलिखित में से कौन सा राज्य नेपाल के साथ सीमा साझा करता है?

Options :

1. ✖ त्रिपुरा
2. ✖ गुजरात
3. ✔ उत्तर प्रदेश
4. ✖ तेलंगाना

General Awareness2

Group Number :	4
Group Id :	545927324
Group Maximum Duration :	0
Group Minimum Duration :	0
Revisit allowed for view? :	No
Revisit allowed for edit? :	No
Break time:	0
Group Marks:	20
Revisit allowed for group Instructions? :	Yes
Maximum Instruction Time:	0
Minimum Instruction Time:	0

General Awareness2

Section Id :	545927324
Section Number :	1
Section type :	Online
Mandatory or Optional:	Mandatory
Number of Questions:	20
Number of Questions to be attempted:	20
Section Marks:	20
Display Number Panel:	Yes
Group All Questions:	No

Sub-Section Number: 1
Sub-Section Id: 545927388
Question Shuffling Allowed : Yes

Question Number : 61 Question Id : 5459276525 Question Type : MCQ Option Shuffling : Yes Display Question Number : Yes
Single Line Question Option : No Option Orientation : Vertical

Correct Marks : 1 Wrong Marks : 0.25

What are the main factors for migration in India?

- I. Poverty
- II. Healthcare
- III. Education

Options :

- 1. ✘ I and II
- 2. ✘ II and III
- 3. ✘ I and III
- 4. ✔ I, II and III

Question Number : 61 Question Id : 5459276525 Question Type : MCQ Option Shuffling : Yes Display Question Number : Yes
Single Line Question Option : No Option Orientation : Vertical

Correct Marks : 1 Wrong Marks : 0.25

भारत में स्थानांतरण (प्रवास) के मुख्य कारक क्या हैं?

- I. गरीबी
- II. स्वास्थ्य सेवा
- III. शिक्षा

Options :

- 1. ✘ I तथा II
- 2. ✘ II तथा III
- 3. ✘ I तथा III
- 4. ✔ I, II तथा III

Question Number : 62 Question Id : 5459276526 Question Type : MCQ Option Shuffling : Yes Display Question Number : Yes
Single Line Question Option : No Option Orientation : Vertical

Correct Marks : 1 Wrong Marks : 0.25

'Harmika', a balcony-like structure that represented the abode of God was part of which architecture?

Options :

- 1. ✘ Mughal
- 2. ✘ Jainism
- 3. ✔ Buddhist
- 4. ✘ Mauryan

Question Number : 62 Question Id : 5459276526 Question Type : MCQ Option Shuffling : Yes Display Question Number : Yes
Single Line Question Option : No Option Orientation : Vertical

Correct Marks : 1 Wrong Marks : 0.25

'हरमिका', एक आलिन्द जैसा ढांचा जो भगवान के निवास को दर्शाता है, किस वास्तुकला का हिस्सा थी?

Options :

- 1. ✘ मुगल
- 2. ✘ जैन धर्म
- 3. ✔ बौद्ध
- 4. ✘ मौर्य

Question Number : 63 Question Id : 5459276527 Question Type : MCQ Option Shuffling : Yes Display Question Number : Yes
Single Line Question Option : No Option Orientation : Vertical

Correct Marks : 1 Wrong Marks : 0.25

Who gave the slogan of 'Do or Die'?

Options :

1. ✓ Mahatma Gandhi
2. ✗ Subhash Chandra Bose
3. ✗ Bal Gangadhar Tilak
4. ✗ Bhagat Singh

Question Number : 63 Question Id : 5459276527 Question Type : MCQ Option Shuffling : Yes Display Question Number : Yes
Single Line Question Option : No Option Orientation : Vertical

Correct Marks : 1 Wrong Marks : 0.25

'करो या मरो' का नारा किसने दिया था?

Options :

1. ✓ महात्मा गांधी
2. ✗ सुभाष चंद्र बोस
3. ✗ बाल गंगाधर तिलक
4. ✗ भगत सिंह

Question Number : 64 Question Id : 5459276528 Question Type : MCQ Option Shuffling : Yes Display Question Number : Yes
Single Line Question Option : No Option Orientation : Vertical

Correct Marks : 1 Wrong Marks : 0.25

Which of the following material was used during Harappan Civilization?

- I. Plastic
- II. Teracotta
- III. Rubber

Options :

1. ✓ Only II
2. ✗ Only III
3. ✗ II and III
4. ✗ I and II

Question Number : 64 Question Id : 5459276528 Question Type : MCQ Option Shuffling : Yes Display Question Number : Yes
Single Line Question Option : No Option Orientation : Vertical

Correct Marks : 1 Wrong Marks : 0.25

निम्नलिखित में से किस सामग्री का उपयोग हड़प्पा सभ्यता के दौरान किया गया था?

- I. प्लास्टिक
- II. टेराकोटा
- III. रबर

Options :

1. ✓ केवल II
2. ✗ केवल III
3. ✗ II तथा III
4. ✗ I तथा II

Question Number : 65 Question Id : 5459276529 Question Type : MCQ Option Shuffling : Yes Display Question Number : Yes
Single Line Question Option : No Option Orientation : Vertical

Correct Marks : 1 Wrong Marks : 0.25

Who set up Home Rule League in April 1916?

Options :

- ✘ Savitribai Phule
- ✘ Laxmi Sehgal
- ✔ Annie Besant
- ✘ Sarojini Naidu

Question Number : 65 Question Id : 5459276529 Question Type : MCQ Option Shuffling : Yes Display Question Number : Yes
Single Line Question Option : No Option Orientation : Vertical

Correct Marks : 1 Wrong Marks : 0.25

अप्रैल 1916 में होम रूल लीग की स्थापना किसने की थी?

Options :

- ✘ सावित्रीबाई फुले
- ✘ लक्ष्मी सहगल
- ✔ एनी बेसेंट
- ✘ सरोजिनी नायडू

Question Number : 66 Question Id : 5459276530 Question Type : MCQ Option Shuffling : Yes Display Question Number : Yes
Single Line Question Option : No Option Orientation : Vertical

Correct Marks : 1 Wrong Marks : 0.25

The Hoysala dynasty was associated with which state?

Options :

- ✘ Gujarat
- ✘ Madhya Pradesh
- ✔ Karnataka
- ✘ Tamil Nadu

Question Number : 66 Question Id : 5459276530 Question Type : MCQ Option Shuffling : Yes Display Question Number : Yes
Single Line Question Option : No Option Orientation : Vertical

Correct Marks : 1 Wrong Marks : 0.25

होयसाल राजवंश किस राज्य से सम्बंधित था?

Options :

- ✘ गुजरात
- ✘ मध्य प्रदेश
- ✔ कर्नाटक
- ✘ तमिलनाडु

Question Number : 67 Question Id : 5459276531 Question Type : MCQ Option Shuffling : Yes Display Question Number : Yes
Single Line Question Option : No Option Orientation : Vertical

Correct Marks : 1 Wrong Marks : 0.25

The First Battle of Tarain was fought between Mohammad Ghori and _____.

Options :

- ✘ Rana Pratap Singh
- ✘ Jai Singh
- ✔ Prithviraj Chauhan
- ✘ Maharaja Hari Singh

Question Number : 67 Question Id : 5459276531 Question Type : MCQ Option Shuffling : Yes Display Question Number : Yes
Single Line Question Option : No Option Orientation : Vertical

Correct Marks : 1 Wrong Marks : 0.25

तराइन का पहला युद्ध मुहम्मद ग़ोरी और _____ के बीच लड़ा गया था।

Options :

1. ✘ राणा प्रताप सिंह
2. ✘ जय सिंह
3. ✔ पृथ्वीराज चौहान
4. ✘ महाराजा हरि सिंह

Question Number : 68 Question Id : 5459276532 Question Type : MCQ Option Shuffling : Yes Display Question Number : Yes
Single Line Question Option : No Option Orientation : Vertical

Correct Marks : 1 Wrong Marks : 0.25

National Doctor's day is observed every year on _____.

Options :

1. ✘ 2nd July
2. ✘ 27th July
3. ✔ 1st July
4. ✘ 27th June

Question Number : 68 Question Id : 5459276532 Question Type : MCQ Option Shuffling : Yes Display Question Number : Yes
Single Line Question Option : No Option Orientation : Vertical

Correct Marks : 1 Wrong Marks : 0.25

राष्ट्रीय चिकित्सक दिवस हर साल _____ को मनाया जाता है।

Options :

1. ✘ 2 जुलाई
2. ✘ 27 जुलाई
3. ✔ 1 जुलाई
4. ✘ 27 जून

Question Number : 69 Question Id : 5459276533 Question Type : MCQ Option Shuffling : Yes Display Question Number : Yes
Single Line Question Option : No Option Orientation : Vertical

Correct Marks : 1 Wrong Marks : 0.25

Who was appointed as president of World Bank in April, 2019?

Options :

1. ✔ David Malpass
2. ✘ Anshula Kant
3. ✘ Jim Yong Kim
4. ✘ Ivanka Trump

Question Number : 69 Question Id : 5459276533 Question Type : MCQ Option Shuffling : Yes Display Question Number : Yes
Single Line Question Option : No Option Orientation : Vertical

Correct Marks : 1 Wrong Marks : 0.25

अप्रैल 2019 में, किसे वर्ल्ड बैंक का अध्यक्ष नियुक्त किया गया है?

Options :

1. ✔ डेविड मालपास
2. ✘ अंशुला कांत
3. ✘ जिम योंग किम
4. ✘ इवांका ट्रम्प

Question Number : 70 Question Id : 5459276534 Question Type : MCQ Option Shuffling : Yes Display Question Number : Yes
Single Line Question Option : No Option Orientation : Vertical

Correct Marks : 1 Wrong Marks : 0.25

"Lessons Life Taught Me Unknowingly" is an autobiography of which actor?

Options :

- ✘ Boney Kapoor
- ✔ Anupam Kher
- ✘ Rishi Kapoor
- ✘ Rakesh Roshan

Question Number : 70 Question Id : 5459276534 Question Type : MCQ Option Shuffling : Yes Display Question Number : Yes
Single Line Question Option : No Option Orientation : Vertical

Correct Marks : 1 Wrong Marks : 0.25

"लेसंस लाइफ टॉट मी अननोइंगली" किस अभिनेता की आत्मकथा है?

Options :

- ✘ बोनी कपूर
- ✔ अनुपम खेर
- ✘ ऋषि कपूर
- ✘ राकेश रोशन

Question Number : 71 Question Id : 5459276535 Question Type : MCQ Option Shuffling : Yes Display Question Number : Yes
Single Line Question Option : No Option Orientation : Vertical

Correct Marks : 1 Wrong Marks : 0.25

Russia honored _____ in 2019 with 'Order of St Andrew the Apostle'.

Options :

- ✔ Narendra Modi
- ✘ Venkaiah Naidu
- ✘ Piyush Goyal
- ✘ Raj Nath Kovind

Question Number : 71 Question Id : 5459276535 Question Type : MCQ Option Shuffling : Yes Display Question Number : Yes
Single Line Question Option : No Option Orientation : Vertical

Correct Marks : 1 Wrong Marks : 0.25

रूस ने 2019 में _____ को 'ऑर्डर ऑफ सेंट एंड्रयू द एपोस्टल' से सम्मानित किया।

Options :

- ✔ नरेंद्र मोदी
- ✘ वेंकैया नायडू
- ✘ पीयूष गोयल
- ✘ राज नाथ कोविंद

Question Number : 72 Question Id : 5459276536 Question Type : MCQ Option Shuffling : Yes Display Question Number : Yes
Single Line Question Option : No Option Orientation : Vertical

Correct Marks : 1 Wrong Marks : 0.25

Which actor was awarded the Dadasaheb Phalke Award 2018?

Options :

- ✘ Anupam Kher
- ✔ Vinod Khanna
- ✘ Sanjay Dutt

4. ✖ Amitabh Bachchan

Question Number : 72 Question Id : 5459276536 Question Type : MCQ Option Shuffling : Yes Display Question Number : Yes
Single Line Question Option : No Option Orientation : Vertical

Correct Marks : 1 Wrong Marks : 0.25

किस अभिनेता को 2018 दादा साहेब फाल्के पुरस्कार से सम्मानित किया गया था?

Options :

1. ✖ अनुपम खेर
2. ✔ विनोद खन्ना
3. ✖ संजय दत्त
4. ✖ अमिताभ बच्चन

Question Number : 73 Question Id : 5459276537 Question Type : MCQ Option Shuffling : Yes Display Question Number : Yes
Single Line Question Option : No Option Orientation : Vertical

Correct Marks : 1 Wrong Marks : 0.25

The novel "Milkman" is written by _____.

Options :

1. ✖ Salman Rushdie
2. ✔ Anna Burns
3. ✖ Kiran Desai
4. ✖ Arundhati Roy

Question Number : 73 Question Id : 5459276537 Question Type : MCQ Option Shuffling : Yes Display Question Number : Yes
Single Line Question Option : No Option Orientation : Vertical

Correct Marks : 1 Wrong Marks : 0.25

"मिल्कमैन" उपन्यास _____ द्वारा लिखा गया है।

Options :

1. ✖ सलमान रुश्दी
2. ✔ एना बर्न्स
3. ✖ किरण देसाई
4. ✖ अरुंधति रॉय

Question Number : 74 Question Id : 5459276538 Question Type : MCQ Option Shuffling : Yes Display Question Number : Yes
Single Line Question Option : No Option Orientation : Vertical

Correct Marks : 1 Wrong Marks : 0.25

Allocation of seats in the Council of States is included in which Schedule of Indian Constitution?

Options :

1. ✔ Fourth Schedule
2. ✖ Ninth Schedule
3. ✖ Tenth Schedule
4. ✖ Second Schedule

Question Number : 74 Question Id : 5459276538 Question Type : MCQ Option Shuffling : Yes Display Question Number : Yes
Single Line Question Option : No Option Orientation : Vertical

Correct Marks : 1 Wrong Marks : 0.25

भारतीय संविधान की किस अनुसूची में राज्यों की परिषद् में स्थानों के आवंटन का उल्लेख है?

Options :

1. ✔ चौथी अनुसूची
2. ✖ नवीं अनुसूची

3. ✘ दसवीं अनुसूची
4. ✘ दूसरी अनुसूची

Question Number : 75 Question Id : 5459276539 Question Type : MCQ Option Shuffling : Yes Display Question Number : Yes
Single Line Question Option : No Option Orientation : Vertical

Correct Marks : 1 Wrong Marks : 0.25

Emergency Provisions are contained in which Part of the Constitution of India?

Options :

1. ✘ Part I
2. ✘ Part X
3. ✔ Part XVIII
4. ✘ Part XX

Question Number : 75 Question Id : 5459276539 Question Type : MCQ Option Shuffling : Yes Display Question Number : Yes
Single Line Question Option : No Option Orientation : Vertical

Correct Marks : 1 Wrong Marks : 0.25

आपात उपबंध भारत के संविधान के किस भाग में निहित है?

Options :

1. ✘ भाग I
2. ✘ भाग X
3. ✔ भाग XVIII
4. ✘ भाग XX

Question Number : 76 Question Id : 5459276540 Question Type : MCQ Option Shuffling : Yes Display Question Number : Yes
Single Line Question Option : No Option Orientation : Vertical

Correct Marks : 1 Wrong Marks : 0.25

Through which amendment act municipalities were introduced in India?

Options :

1. ✘ 52nd Amendment Act, 1985
2. ✔ 74th Amendment Act, 1992
3. ✘ 70th Amendment Act, 1992
4. ✘ 53rd Amendment Act, 1986

Question Number : 76 Question Id : 5459276540 Question Type : MCQ Option Shuffling : Yes Display Question Number : Yes
Single Line Question Option : No Option Orientation : Vertical

Correct Marks : 1 Wrong Marks : 0.25

किस संशोधन अधिनियम के माध्यम से भारत में नगरपालिकाओं की शुरुआत की गई थी?

Options :

1. ✘ 52 वां संशोधन अधिनियम, 1985
2. ✔ 74 वां संशोधन अधिनियम, 1992
3. ✘ 70 वां संशोधन अधिनियम, 1992
4. ✘ 53 वां संशोधन अधिनियम, 1986

Question Number : 77 Question Id : 5459276541 Question Type : MCQ Option Shuffling : Yes Display Question Number : Yes
Single Line Question Option : No Option Orientation : Vertical

Correct Marks : 1 Wrong Marks : 0.25

What does Article 42 of the Indian Constitution deals with?

Options :

1. ✔ Provisions for just and humane conditions of work and maternity relief.

2. ✘ Uniform civil code for the citizen.
3. ✘ Protection of life and personal liberty.
4. ✘ Fundamental rights

Question Number : 77 Question Id : 5459276541 Question Type : MCQ Option Shuffling : Yes Display Question Number : Yes
Single Line Question Option : No Option Orientation : Vertical

Correct Marks : 1 Wrong Marks : 0.25

भारतीय संविधान का अनुच्छेद 42 किससे संबंधित है?

Options :

1. ✔ काम की न्यायसंगत और मानवोचित दशाओं का तथा प्रसूति सहायता का उपबंध
2. ✘ नागरिकों के लिए एक समान सिविल संहिता
3. ✘ प्राण और दैहिक स्वतंत्रता का संरक्षण
4. ✘ मूल अधिकार

Question Number : 78 Question Id : 5459276542 Question Type : MCQ Option Shuffling : Yes Display Question Number : Yes
Single Line Question Option : No Option Orientation : Vertical

Correct Marks : 1 Wrong Marks : 0.25

How many medals did India win in the 2018 Commonwealth Games?

Options :

1. ✘ 52
2. ✘ 60
3. ✔ 66
4. ✘ 73

Question Number : 78 Question Id : 5459276542 Question Type : MCQ Option Shuffling : Yes Display Question Number : Yes
Single Line Question Option : No Option Orientation : Vertical

Correct Marks : 1 Wrong Marks : 0.25

कॉमनवेल्थ गेम्स 2018 में भारत ने कितने पदक जीते थे?

Options :

1. ✘ 52
2. ✘ 60
3. ✔ 66
4. ✘ 73

Question Number : 79 Question Id : 5459276543 Question Type : MCQ Option Shuffling : Yes Display Question Number : Yes
Single Line Question Option : No Option Orientation : Vertical

Correct Marks : 1 Wrong Marks : 0.25

Which of the following pair of player - game is not correct?

Note: For this question, discrepancy is found in question/answer. So, this question is ignored for all candidates.

Options :

1. Saina Nehwal - Badminton
2. Vikas Krishan - Boxing
3. Sharath Kamal - Tennis
4. Hussamuddin Mohammed - Hockey

Question Number : 79 Question Id : 5459276543 Question Type : MCQ Option Shuffling : Yes Display Question Number : Yes
Single Line Question Option : No Option Orientation : Vertical

Correct Marks : 1 Wrong Marks : 0.25

निम्नलिखित में से खिलाड़ी - खेल का कौन सा युग्म सही नहीं है?

Note: For this question, discrepancy is found in question/answer. So, this question is ignored for all candidates.

Options :

1. साइना नेहवाल - बैडमिंटन
2. विकास कृष्णन - बॉक्सिंग
3. शरथ कमल - टेनिस
4. हुसामुद्दीन मोहम्मद - हॉकी

Question Number : 80 Question Id : 5459276544 Question Type : MCQ Option Shuffling : Yes Display Question Number : Yes
Single Line Question Option : No Option Orientation : Vertical

Correct Marks : 1 Wrong Marks : 0.25

2022 Commonwealth Games will be held in which country?

Options :

1. ✘ India
2. ✘ Australia
3. ✔ England
4. ✘ Indonesia

Question Number : 80 Question Id : 5459276544 Question Type : MCQ Option Shuffling : Yes Display Question Number : Yes
Single Line Question Option : No Option Orientation : Vertical

Correct Marks : 1 Wrong Marks : 0.25

2022 कॉमनवेल्थ खेल किस देश में खेले जाएँगे?

Options :

1. ✘ भारत
2. ✘ आस्ट्रेलिया
3. ✔ इंग्लेण्ड
4. ✘ इंडोनेशिया

Arithmetic Ability1

Group Number :	5
Group Id :	545927325
Group Maximum Duration :	0
Group Minimum Duration :	0
Revisit allowed for view? :	No
Revisit allowed for edit? :	No
Break time:	0
Group Marks:	20
Revisit allowed for group Instructions? :	Yes
Maximum Instruction Time:	0
Minimum Instruction Time:	0

Arithmetic Ability1

Section Id :	545927325
Section Number :	1
Section type :	Online
Mandatory or Optional:	Mandatory

Number of Questions:	20
Number of Questions to be attempted:	20
Section Marks:	20
Display Number Panel:	Yes
Group All Questions:	No

Sub-Section Number:	1
Sub-Section Id:	545927389
Question Shuffling Allowed :	Yes

Question Number : 81 Question Id : 5459276545 Question Type : MCQ Option Shuffling : Yes Display Question Number : Yes
Single Line Question Option : No Option Orientation : Vertical

Correct Marks : 1 Wrong Marks : 0.25

$$\frac{(0.73)^3 + (0.31)^3}{(0.73)^2 - 0.73 \times 0.31 + (0.31)^2}$$

Options :

- ✘ 1.01
- ✔ 1.04
- ✘ 1.08
- ✘ 2.14

Question Number : 81 Question Id : 5459276545 Question Type : MCQ Option Shuffling : Yes Display Question Number : Yes
Single Line Question Option : No Option Orientation : Vertical

Correct Marks : 1 Wrong Marks : 0.25

$$\frac{(0.73)^3 + (0.31)^3}{(0.73)^2 - 0.73 \times 0.31 + (0.31)^2}$$

Options :

- ✘ 1.01
- ✔ 1.04
- ✘ 1.08
- ✘ 2.14

Question Number : 82 Question Id : 5459276546 Question Type : MCQ Option Shuffling : Yes Display Question Number : Yes
Single Line Question Option : No Option Orientation : Vertical

Correct Marks : 1 Wrong Marks : 0.25

$$(4.7 + 2.1)^2 - (4.7 - 2.1)^2$$

Options :

- ✘ 37.18
- ✘ 42.18
- ✘ 36.48
- ✔ 39.48

Question Number : 82 Question Id : 5459276546 Question Type : MCQ Option Shuffling : Yes Display Question Number : Yes
Single Line Question Option : No Option Orientation : Vertical

Correct Marks : 1 Wrong Marks : 0.25

$$(4.7 + 2.1)^2 - (4.7 - 2.1)^2$$

Options :

1. ✘ 37.18
2. ✘ 42.18
3. ✘ 36.48
4. ✔ 39.48

Question Number : 83 Question Id : 5459276547 Question Type : MCQ Option Shuffling : Yes Display Question Number : Yes
Single Line Question Option : No Option Orientation : Vertical

Correct Marks : 1 Wrong Marks : 0.25

$$\frac{\sqrt{81} + \sqrt[3]{0.027} + \sqrt[4]{0.0081}}{\sqrt{9} + \sqrt[3]{0.729} + \sqrt[4]{0.6561}}$$

Options :

1. ✘ 1
2. ✔ 2
3. ✘ 4
4. ✘ 1/2

Question Number : 83 Question Id : 5459276547 Question Type : MCQ Option Shuffling : Yes Display Question Number : Yes
Single Line Question Option : No Option Orientation : Vertical

Correct Marks : 1 Wrong Marks : 0.25

$$\frac{\sqrt{81} + \sqrt[3]{0.027} + \sqrt[4]{0.0081}}{\sqrt{9} + \sqrt[3]{0.729} + \sqrt[4]{0.6561}}$$

Options :

1. ✘ 1
2. ✔ 2
3. ✘ 4
4. ✘ 1/2

Question Number : 84 Question Id : 5459276548 Question Type : MCQ Option Shuffling : Yes Display Question Number : Yes
Single Line Question Option : No Option Orientation : Vertical

Correct Marks : 1 Wrong Marks : 0.25

How many numbers are there from 32 to 333 which are divisible by both 3 and 4 but not by 5?

Options :

1. ✘ 18
2. ✘ 21
3. ✔ 20
4. ✘ 19

Question Number : 84 Question Id : 5459276548 Question Type : MCQ Option Shuffling : Yes Display Question Number : Yes
Single Line Question Option : No Option Orientation : Vertical

Correct Marks : 1 Wrong Marks : 0.25

32 से 333 तक कितनी संख्याएँ हैं जो 3 तथा 4 दोनों से विभाज्य हैं परंतु 5 से नहीं?

Options :

1. ✘ 18
2. ✘ 21
3. ✔ 20
4. ✘ 19

Question Number : 85 Question Id : 5459276549 Question Type : MCQ Option Shuffling : Yes Display Question Number : Yes
Single Line Question Option : No Option Orientation : Vertical

Correct Marks : 1 Wrong Marks : 0.25

$$\text{If } A = \frac{1}{30} + \frac{1}{20} + \frac{1}{42} \text{ and } B = \frac{1}{56} + \frac{1}{72} + \frac{1}{90}$$

Note: For this question, discrepancy is found in question/answer. So, this question is ignored for all candidates.

Options :

1. 21/140
2. 23/150
3. 21/160
4. 23/140

Question Number : 85 Question Id : 5459276549 Question Type : MCQ Option Shuffling : Yes Display Question Number : Yes
Single Line Question Option : No Option Orientation : Vertical

Correct Marks : 1 Wrong Marks : 0.25

$$\text{यदि } A = \frac{1}{30} + \frac{1}{20} + \frac{1}{42} \text{ तथा } B = \frac{1}{56} + \frac{1}{72} + \frac{1}{90}$$

Note: For this question, discrepancy is found in question/answer. So, this question is ignored for all candidates.

Options :

1. 21/140
2. 23/150
3. 21/160
4. 23/140

Question Number : 86 Question Id : 5459276550 Question Type : MCQ Option Shuffling : Yes Display Question Number : Yes
Single Line Question Option : No Option Orientation : Vertical

Correct Marks : 1 Wrong Marks : 0.25

$$\text{If } A = 5\frac{1}{2} + 7\frac{3}{4} - 2\frac{1}{4} \text{ and } B = 11\frac{1}{4} - 3\frac{1}{2} - 5\frac{3}{4}, \text{ then what is the value of } A^2 + B^2?$$

Options :

1. ✘ 150
2. ✔ 125
3. ✘ 130
4. ✘ 145

Question Number : 86 Question Id : 5459276550 Question Type : MCQ Option Shuffling : Yes Display Question Number : Yes
Single Line Question Option : No Option Orientation : Vertical

Correct Marks : 1 Wrong Marks : 0.25

यदि $A = 5\frac{1}{2} + 7\frac{3}{4} - 2\frac{1}{4}$ तथा $B = 11\frac{1}{4} - 3\frac{1}{2} - 5\frac{3}{4}$, तो $A^2 + B^2$ का मान क्या है?

Options :

1. ✖ 150
2. ✔ 125
3. ✖ 130
4. ✖ 145

Question Number : 87 Question Id : 5459276551 Question Type : MCQ Option Shuffling : Yes Display Question Number : Yes
Single Line Question Option : No Option Orientation : Vertical

Correct Marks : 1 Wrong Marks : 0.25

If $A = (3.1)^2 - (2.2)^2$ and $B = (2.2)^2 - (3.1)^2$

Note: For this question, discrepancy is found in question/answer. So, this question is ignored for all candidates.

Options :

1. 0
2. 3.27
3. 9.54
4. 6.32

Question Number : 87 Question Id : 5459276551 Question Type : MCQ Option Shuffling : Yes Display Question Number : Yes
Single Line Question Option : No Option Orientation : Vertical

Correct Marks : 1 Wrong Marks : 0.25

यदि $A = (3.1)^2 - (2.2)^2$ तथा $B = (2.2)^2 - (3.1)^2$

Note: For this question, discrepancy is found in question/answer. So, this question is ignored for all candidates.

Options :

1. 0
2. 3.27
3. 9.54
4. 6.32

Question Number : 88 Question Id : 5459276552 Question Type : MCQ Option Shuffling : Yes Display Question Number : Yes
Single Line Question Option : No Option Orientation : Vertical

Correct Marks : 1 Wrong Marks : 0.25

Which of the following statement(s) is/are correct?

- I. $(3/11) > 0.3$
- II. $(7/8) > 0.86$

Options :

1. ✖ Only I
2. ✔ Only II
3. ✖ Both I and II
4. ✖ Neither I nor II

Question Number : 88 Question Id : 5459276552 Question Type : MCQ Option Shuffling : Yes Display Question Number : Yes
Single Line Question Option : No Option Orientation : Vertical

Correct Marks : 1 Wrong Marks : 0.25

निम्नलिखित में से कौन सा/से कथन सही है/हैं?

I. $(3/11) > 0.3$

II. $(7/8) > 0.86$

Options :

1. ✘ केवल I
2. ✔ केवल II
3. ✘ I तथा II दोनों
4. ✘ ना तो I ना तो II

Question Number : 89 Question Id : 5459276553 Question Type : MCQ Option Shuffling : Yes Display Question Number : Yes
Single Line Question Option : No Option Orientation : Vertical

Correct Marks : 1 Wrong Marks : 0.25

$$\frac{(5.17 - 2.19)^2 - (5.17 + 2.19)^2}{11.3223}$$

Options :

1. ✘ 1/4
2. ✘ -1/4
3. ✔ -4
4. ✘ 4

Question Number : 89 Question Id : 5459276553 Question Type : MCQ Option Shuffling : Yes Display Question Number : Yes
Single Line Question Option : No Option Orientation : Vertical

Correct Marks : 1 Wrong Marks : 0.25

$$\frac{(5.17 - 2.19)^2 - (5.17 + 2.19)^2}{11.3223}$$

Options :

1. ✘ 1/4
2. ✘ -1/4
3. ✔ -4
4. ✘ 4

Question Number : 90 Question Id : 5459276554 Question Type : MCQ Option Shuffling : Yes Display Question Number : Yes
Single Line Question Option : No Option Orientation : Vertical

Correct Marks : 1 Wrong Marks : 0.25

If $X = \frac{1}{3} + \frac{1}{15} + \frac{1}{35} + \frac{1}{63}$ and $Y = \frac{1}{2} + \frac{1}{6} + \frac{1}{12} + \frac{1}{20}$

Note: For this question, discrepancy is found in question/answer. So, this question is ignored for all candidates.

Options :

1. 32/45
2. 4/45
3. 36/45

4. 31/45

Question Number : 90 Question Id : 5459276554 Question Type : MCQ Option Shuffling : Yes Display Question Number : Yes
Single Line Question Option : No Option Orientation : Vertical

Correct Marks : 1 Wrong Marks : 0.25

$$\text{यदि } X = \frac{1}{3} + \frac{1}{15} + \frac{1}{35} + \frac{1}{63} \text{ तथा } Y = \frac{1}{2} + \frac{1}{6} + \frac{1}{12} + \frac{1}{20}$$

Note: For this question, discrepancy is found in question/answer. So, this question is ignored for all candidates.

Options :

1. 32/45
2. 4/45
3. 36/45
4. 31/45

Question Number : 91 Question Id : 5459276555 Question Type : MCQ Option Shuffling : Yes Display Question Number : Yes
Single Line Question Option : No Option Orientation : Vertical

Correct Marks : 1 Wrong Marks : 0.25

The ratio of marked price to the selling price of a article is 5 : 2. What is the discount percentage?

Options :

1. ✘ 40 percent
2. ✔ 60 percent
3. ✘ 50 percent
4. ✘ 30 percent

Question Number : 91 Question Id : 5459276555 Question Type : MCQ Option Shuffling : Yes Display Question Number : Yes
Single Line Question Option : No Option Orientation : Vertical

Correct Marks : 1 Wrong Marks : 0.25

एक वस्तु के अंकित मूल्य का विक्रय मूल्य से 5 : 2 का अनुपात है। छूट प्रतिशत क्या है?

Options :

1. ✘ 40 प्रतिशत
2. ✔ 60 प्रतिशत
3. ✘ 50 प्रतिशत
4. ✘ 30 प्रतिशत

Question Number : 92 Question Id : 5459276556 Question Type : MCQ Option Shuffling : Yes Display Question Number : Yes
Single Line Question Option : No Option Orientation : Vertical

Correct Marks : 1 Wrong Marks : 0.25

The cost price of a bat is 5/6 of the marked price. What will be the gain/loss percentage after allowing a discount of 30% on the marked price?

Options :

1. ✘ 16% profit
2. ✘ 24% profit
3. ✘ 24% loss
4. ✔ 16% loss

Question Number : 92 Question Id : 5459276556 Question Type : MCQ Option Shuffling : Yes Display Question Number : Yes
Single Line Question Option : No Option Orientation : Vertical

Correct Marks : 1 Wrong Marks : 0.25

एक बल्ले का क्रय मूल्य, अंकित मूल्य का $\frac{5}{6}$ है। अंकित मूल्य पर 30% की छूट देने के पश्चात लाभ/हानि का प्रतिशत क्या होगा?

Options :

1. ✘ 16% लाभ
2. ✘ 24% लाभ
3. ✘ 24% हानि
4. ✔ 16% हानि

Question Number : 93 Question Id : 5459276557 Question Type : MCQ Option Shuffling : Yes Display Question Number : Yes
Single Line Question Option : No Option Orientation : Vertical

Correct Marks : 1 Wrong Marks : 0.25

What is the sum of the average of first 19 natural numbers and the average of first 6 positive odd numbers?

Options :

1. ✔ 16
2. ✘ 19
3. ✘ 17
4. ✘ 18

Question Number : 93 Question Id : 5459276557 Question Type : MCQ Option Shuffling : Yes Display Question Number : Yes
Single Line Question Option : No Option Orientation : Vertical

Correct Marks : 1 Wrong Marks : 0.25

प्रथम 19 प्राकृतिक संख्याओं की औसत तथा प्रथम 6 धनात्मक विषम संख्याओं की औसत का योग क्या है?

Options :

1. ✔ 16
2. ✘ 19
3. ✘ 17
4. ✘ 18

Question Number : 94 Question Id : 5459276558 Question Type : MCQ Option Shuffling : Yes Display Question Number : Yes
Single Line Question Option : No Option Orientation : Vertical

Correct Marks : 1 Wrong Marks : 0.25

If B1 is 75% of B2, then B2 is what percentage of B1?

Options :

1. ✘ 116.67%
2. ✔ 133.33%
3. ✘ 125%
4. ✘ 130%

Question Number : 94 Question Id : 5459276558 Question Type : MCQ Option Shuffling : Yes Display Question Number : Yes
Single Line Question Option : No Option Orientation : Vertical

Correct Marks : 1 Wrong Marks : 0.25

यदि B1, B2 का 75% है, तो B2, B1 का कितना प्रतिशत है?

Options :

1. ✘ 116.67%
2. ✔ 133.33%
3. ✘ 125%
4. ✘ 130%

Question Number : 95 Question Id : 5459276559 Question Type : MCQ Option Shuffling : Yes Display Question Number : Yes
Single Line Question Option : No Option Orientation : Vertical

Correct Marks : 1 Wrong Marks : 0.25

Number J is firstly increased by 40% and then it is decreased by 30%. Final value of J is what percentage of initial value of J?

Options :

- ✘ 82 percent
- ✔ 98 percent
- ✘ 102 percent
- ✘ 104 percent

Question Number : 95 Question Id : 5459276559 Question Type : MCQ Option Shuffling : Yes Display Question Number : Yes Single Line Question Option : No Option Orientation : Vertical

Correct Marks : 1 Wrong Marks : 0.25

संख्या J को पहले 40% से बढ़ाया गया है तथा फिर इसे 30% से घटाया गया है। J का अंतिम मान, J के प्रारंभिक मान का कितना प्रतिशत है?

Options :

- ✘ 82 प्रतिशत
- ✔ 98 प्रतिशत
- ✘ 102 प्रतिशत
- ✘ 104 प्रतिशत

Question Number : 96 Question Id : 5459276560 Question Type : MCQ Option Shuffling : Yes Display Question Number : Yes Single Line Question Option : No Option Orientation : Vertical

Correct Marks : 1 Wrong Marks : 0.25

M1 is 30% more than M2. M2 is 50% more than M3. M3 is 40% less than M4. M1 is what percentage of M4?

Options :

- ✔ 117 percent
- ✘ 130 percent
- ✘ 87 percent
- ✘ 94 percent

Question Number : 96 Question Id : 5459276560 Question Type : MCQ Option Shuffling : Yes Display Question Number : Yes Single Line Question Option : No Option Orientation : Vertical

Correct Marks : 1 Wrong Marks : 0.25

M1, M2 से 30% अधिक है। M2, M3 से 50% अधिक है। M3, M4 से 40% कम है। M1, M4 का कितना प्रतिशत है?

Options :

- ✔ 117 प्रतिशत
- ✘ 130 प्रतिशत
- ✘ 87 प्रतिशत
- ✘ 94 प्रतिशत

Question Number : 97 Question Id : 5459276561 Question Type : MCQ Option Shuffling : Yes Display Question Number : Yes Single Line Question Option : No Option Orientation : Vertical

Correct Marks : 1 Wrong Marks : 0.25

Ram sold a table at Rs 960. On selling this table, he earned a profit of Rs 160. What is the profit percentage?

Options :

- ✘ 16.66 percent
- ✘ 33.33 percent
- ✔ 20 percent
- ✘ 25 percent

Question Number : 97 Question Id : 5459276561 Question Type : MCQ Option Shuffling : Yes Display Question Number : Yes
Single Line Question Option : No Option Orientation : Vertical

Correct Marks : 1 Wrong Marks : 0.25

राम ने 960 रुपये में एक मेज बेच दी। इस मेज को बेचने पर, उसने 160 रुपये का लाभ कमाया। लाभ प्रतिशत क्या है?

Options :

- ✘ 16.66 प्रतिशत
- ✘ 33.33 प्रतिशत
- ✔ 20 प्रतिशत
- ✘ 25 प्रतिशत

Question Number : 98 Question Id : 5459276562 Question Type : MCQ Option Shuffling : Yes Display Question Number : Yes
Single Line Question Option : No Option Orientation : Vertical

Correct Marks : 1 Wrong Marks : 0.25

The selling price of an article is Rs 960 and profit earned on it is 50%. If the new profit percentage is 30%, then what will be the selling price of the article?

Options :

- ✘ Rs 844
- ✔ Rs 832
- ✘ Rs 736
- ✘ Rs 748

Question Number : 98 Question Id : 5459276562 Question Type : MCQ Option Shuffling : Yes Display Question Number : Yes
Single Line Question Option : No Option Orientation : Vertical

Correct Marks : 1 Wrong Marks : 0.25

यदि एक वस्तु का विक्रय मूल्य 960 रुपये है तथा उस पर कमाया गया लाभ 50% है। यदि नया लाभ प्रतिशत 30% है, तो वस्तु का विक्रय मूल्य क्या होगा?

Options :

- ✘ 844 रुपये
- ✔ 832 रुपये
- ✘ 736 रुपये
- ✘ 748 रुपये

Question Number : 99 Question Id : 5459276563 Question Type : MCQ Option Shuffling : Yes Display Question Number : Yes
Single Line Question Option : No Option Orientation : Vertical

Correct Marks : 1 Wrong Marks : 0.25

Anil sells a pen at a loss of 35%. If he had sold the pen for Rs 240 more, then he would have a loss of 20%. To gain profit of 40%, what should be the selling price of the pen?

Options :

- ✘ Rs 2460
- ✘ Rs 3240
- ✔ Rs 2240
- ✘ Rs 2340

Question Number : 99 Question Id : 5459276563 Question Type : MCQ Option Shuffling : Yes Display Question Number : Yes
Single Line Question Option : No Option Orientation : Vertical

Correct Marks : 1 Wrong Marks : 0.25

अनिल एक कलम को 35% की हानि पर बेचता है। यदि उसने कलम को 240 रुपये अधिक में बेचा होता, तो उसे 20% की हानि होती। 40% का लाभ कमाने के लिए, कलम का विक्रय मूल्य क्या होना चाहिए?

Options :

1. ✘ 2460 रुपये
2. ✘ 3240 रुपये
3. ✔ 2240 रुपये
4. ✘ 2340 रुपये

Question Number : 100 Question Id : 5459276564 Question Type : MCQ Option Shuffling : Yes Display Question Number : Yes
Single Line Question Option : No Option Orientation : Vertical

Correct Marks : 1 Wrong Marks : 0.25

The ratio of age of two person A and B is 3 : 4. If the sum of their ages is 56, then what is the age of B?

Options :

1. ✘ 24 years
2. ✘ 36 years
3. ✘ 22 years
4. ✔ 32 years

Question Number : 100 Question Id : 5459276564 Question Type : MCQ Option Shuffling : Yes Display Question Number : Yes
Single Line Question Option : No Option Orientation : Vertical

Correct Marks : 1 Wrong Marks : 0.25

A तथा B दो व्यक्तियों की आयु का अनुपात 3 : 4 है, यदि उनकी आयु का योग 56 है, तो B की आयु क्या है?

Options :

1. ✘ 24 वर्ष
2. ✘ 36 वर्ष
3. ✘ 22 वर्ष
4. ✔ 32 वर्ष

Arithmetic Ability2

Group Number :	6
Group Id :	545927326
Group Maximum Duration :	0
Group Minimum Duration :	0
Revisit allowed for view? :	No
Revisit allowed for edit? :	No
Break time:	0
Group Marks:	20
Revisit allowed for group Instructions? :	Yes
Maximum Instruction Time:	0
Minimum Instruction Time:	0

Arithmetic Ability2

Section Id :	545927326
Section Number :	1
Section type :	Online
Mandatory or Optional:	Mandatory
Number of Questions:	20
Number of Questions to be attempted:	20
Section Marks:	20
Display Number Panel:	Yes

Group All Questions:

No

Sub-Section Number:

1

Sub-Section Id:

545927390

Question Shuffling Allowed :

Yes

Question Number : 101 Question Id : 5459276565 Question Type : MCQ Option Shuffling : Yes Display Question Number : Yes
Single Line Question Option : No Option Orientation : Vertical

Correct Marks : 1 Wrong Marks : 0.25

The salaries of P, Q and R are in the ratio 3 : 5 : 8. If their salaries are increased by 20%, 20% and 5% respectively, then what will be the ratio of their increased salaries?

Options :

1. ✓ 3 : 5 : 7
2. ✗ 1 : 2 : 4
3. ✗ 3 : 6 : 8
4. ✗ 1 : 4 : 7

Question Number : 101 Question Id : 5459276565 Question Type : MCQ Option Shuffling : Yes Display Question Number : Yes
Single Line Question Option : No Option Orientation : Vertical

Correct Marks : 1 Wrong Marks : 0.25

P, Q तथा R की आय का अनुपात 3 : 5 : 8 है। यदि उनकी आय क्रमशः 20%, 20% तथा 5% से बढ़ायी जाये, तो उनकी बढ़ी हुई आय का अनुपात क्या होगा?

Options :

1. ✓ 3 : 5 : 7
2. ✗ 1 : 2 : 4
3. ✗ 3 : 6 : 8
4. ✗ 1 : 4 : 7

Question Number : 102 Question Id : 5459276566 Question Type : MCQ Option Shuffling : Yes Display Question Number : Yes
Single Line Question Option : No Option Orientation : Vertical

Correct Marks : 1 Wrong Marks : 0.25

A bag contains Rs 420 in the form of 5 rupee, 2 rupee and 1 rupee coins. The number of coins of 5 rupee, 2 rupee and 1 rupee are in the ratio of 2 : 3 : 5. What is the total number of coins in the bag?

Options :

1. ✗ 250
2. ✗ 240
3. ✓ 200
4. ✗ 260

Question Number : 102 Question Id : 5459276566 Question Type : MCQ Option Shuffling : Yes Display Question Number : Yes
Single Line Question Option : No Option Orientation : Vertical

Correct Marks : 1 Wrong Marks : 0.25

एक थैले में 420 रुपये, 5 रुपये, 2 रुपये, तथा 1 रुपये के सिक्कों के रूप में हैं। 5 रुपये, 2 रुपये, तथा 1 रुपये के सिक्कों की संख्या का अनुपात 2 : 3 : 5 है। थैले में कुल कितने सिक्के हैं?

Options :

1. ✗ 250
2. ✗ 240
3. ✓ 200
4. ✗ 260

Question Number : 103 Question Id : 5459276567 Question Type : MCQ Option Shuffling : Yes Display Question Number : Yes
Single Line Question Option : No Option Orientation : Vertical

Correct Marks : 1 Wrong Marks : 0.25

Rs 6000 becomes Rs 8340 in K years at simple interest. If rate of interest is 13% per annum, then what is the value of K?

Options :

1. ✘ 4
2. ✔ 3
3. ✘ 5
4. ✘ 2

Question Number : 103 Question Id : 5459276567 Question Type : MCQ Option Shuffling : Yes Display Question Number : Yes
Single Line Question Option : No Option Orientation : Vertical

Correct Marks : 1 Wrong Marks : 0.25

साधारण ब्याज पर 6000 रुपये K वर्षों में 8340 रुपये हो जाते हैं यदि ब्याज की दर 13% प्रति वर्ष है, तो K का मान क्या है?

Options :

1. ✘ 4
2. ✔ 3
3. ✘ 5
4. ✘ 2

Question Number : 104 Question Id : 5459276568 Question Type : MCQ Option Shuffling : Yes Display Question Number : Yes
Single Line Question Option : No Option Orientation : Vertical

Correct Marks : 1 Wrong Marks : 0.25

20000 रुपये को 2 भागों में साधारण ब्याज पर रखा गया है। एक भाग को 8% प्रति वर्ष की दर से रखा गया है तथा दूसरे भाग को 15% प्रति वर्ष की दर से रखा गया है। यदि 3 वर्ष का कुल ब्याज 6480 रुपये है, तो दो भागों का मान क्या है?

Options :

1. ✘ 16000 रुपये, 5000 रुपये
2. ✘ 14000 रुपये, 6000 रुपये
3. ✔ 12000 रुपये, 8000 रुपये
4. ✘ 10000 रुपये, 10000 रुपये

Question Number : 104 Question Id : 5459276568 Question Type : MCQ Option Shuffling : Yes Display Question Number : Yes
Single Line Question Option : No Option Orientation : Vertical

Correct Marks : 1 Wrong Marks : 0.25

Rs 20000 are kept at simple interest in 2 parts. One part is kept at a rate of 8% per annum and the other part is kept at a rate of 15% per annum. If the total interest for 3 years is Rs 6480, then what is the value of the 2 parts?

Options :

1. ✘ Rs 16000, Rs 5000
2. ✘ Rs 14000, Rs 6000
3. ✔ Rs 12000, Rs 8000
4. ✘ Rs 10000, Rs 10000

Question Number : 105 Question Id : 5459276569 Question Type : MCQ Option Shuffling : Yes Display Question Number : Yes
Single Line Question Option : No Option Orientation : Vertical

Correct Marks : 1 Wrong Marks : 0.25

A sum of money becomes Rs 39930 in 3 years and Rs 36300 in 2 years when kept at compound interest (compounding annually). What is the sum?

Options :

1. ✘ Rs 34000
2. ✘ Rs 32000
3. ✘ Rs 28000
4. ✔ Rs 30000

Question Number : 105 Question Id : 5459276569 Question Type : MCQ Option Shuffling : Yes Display Question Number : Yes
Single Line Question Option : No Option Orientation : Vertical

Correct Marks : 1 Wrong Marks : 0.25

चक्रवृद्धि ब्याज (वार्षिक संयोजन) पर रखे जाने पर, एक धनराशि 3 वर्षों में 39930 रुपये तथा 2 वर्षों में 36300 रुपये हो जाती है। धनराशि क्या है?

Options :

1. ✘ 34000 रुपये
2. ✘ 32000 रुपये
3. ✘ 28000 रुपये
4. ✔ 30000 रुपये

Question Number : 106 Question Id : 5459276570 Question Type : MCQ Option Shuffling : Yes Display Question Number : Yes
Single Line Question Option : No Option Orientation : Vertical

Correct Marks : 1 Wrong Marks : 0.25

The speed of a boat in still water is 18 km/hr. If the speed of stream is 4 km/hr, then how much time will it take to cover a distance of 44 km in downstream?

Options :

1. ✘ 5 hours
2. ✘ 4 hours
3. ✘ 3 hours
4. ✔ 2 hours

Question Number : 106 Question Id : 5459276570 Question Type : MCQ Option Shuffling : Yes Display Question Number : Yes
Single Line Question Option : No Option Orientation : Vertical

Correct Marks : 1 Wrong Marks : 0.25

एक नाव की गति स्थिर जल में 18 कि.मी./घंटा है। यदि धारा की गति 4 कि.मी./घंटा है, तो धारा के अनुकूल 44 कि.मी. की एक दूरी को तय करने में वह कितना समय लेगी?

Options :

1. ✘ 5 घंटे
2. ✘ 4 घंटे
3. ✘ 3 घंटे
4. ✔ 2 घंटे

Question Number : 107 Question Id : 5459276571 Question Type : MCQ Option Shuffling : Yes Display Question Number : Yes
Single Line Question Option : No Option Orientation : Vertical

Correct Marks : 1 Wrong Marks : 0.25

A bus is travelling at the speed of 81 km/hr. How much time will the bus take to cover a distance of $9\frac{1}{2}$ km?

Options :

1. ✘ 270 seconds
2. ✔ 200 seconds
3. ✘ 180 seconds
4. ✘ 240 seconds

Question Number : 107 Question Id : 5459276571 Question Type : MCQ Option Shuffling : Yes Display Question Number : Yes
Single Line Question Option : No Option Orientation : Vertical

Correct Marks : 1 Wrong Marks : 0.25

एक बस 81 कि.मी./घंटा की गति से चल रही है 9/2 कि.मी. की दूरी को तय करने में बस कितना समय लेगी?

Options :

1. ✘ 270 सेकण्ड
2. ✔ 200 सेकण्ड
3. ✘ 180 सेकण्ड
4. ✘ 240 सेकण्ड

Question Number : 108 Question Id : 5459276572 Question Type : MCQ Option Shuffling : Yes Display Question Number : Yes
Single Line Question Option : No Option Orientation : Vertical

Correct Marks : 1 Wrong Marks : 0.25

A car has to travel 250 km in 30 hours. It covers 1/5 part of the journey in 1/6 time. What should be its speed for the remaining journey to reach on time?

Options :

1. ✔ 8 km/hr
2. ✘ 10 km/hr
3. ✘ 12 km/hr
4. ✘ 15 km/hr

Question Number : 108 Question Id : 5459276572 Question Type : MCQ Option Shuffling : Yes Display Question Number : Yes
Single Line Question Option : No Option Orientation : Vertical

Correct Marks : 1 Wrong Marks : 0.25

एक गाड़ी को 30 घंटे में 250 कि.मी. यात्रा करनी है वह यात्रा का 1/5 भाग 1/6 समय में पूरा करती है समय पर पहुँचने के लिए उसे बची हुई यात्रा किस गति से करनी होगी?

Options :

1. ✔ 8 कि.मी./घंटा
2. ✘ 10 कि.मी./घंटा
3. ✘ 12 कि.मी./घंटा
4. ✘ 15 कि.मी./घंटा

Question Number : 109 Question Id : 5459276573 Question Type : MCQ Option Shuffling : Yes Display Question Number : Yes
Single Line Question Option : No Option Orientation : Vertical

Correct Marks : 1 Wrong Marks : 0.25

Vikram's efficiency is 300% of Kushal's efficiency. If Vikram can complete a piece of work in 100 hours, then how much time will they take working together to complete the same work?

Options :

1. ✘ 45 hours
2. ✘ 50 hours
3. ✘ 60 hours
4. ✔ 75 hours

Question Number : 109 Question Id : 5459276573 Question Type : MCQ Option Shuffling : Yes Display Question Number : Yes
Single Line Question Option : No Option Orientation : Vertical

Correct Marks : 1 Wrong Marks : 0.25

विक्रम की क्षमता, कुशल की क्षमता का 300% है यदि विक्रम एक कार्य को 100 घंटे में कर सकता है, तो वे उसी कार्य को साथ करते हुए पूरा करने में कितना समय लेंगे?

Options :

1. ✘ 45 घंटे

2. ✘ 50 घंटे
3. ✘ 60 घंटे
4. ✔ 75 घंटे

Question Number : 110 Question Id : 5459276574 Question Type : MCQ Option Shuffling : Yes Display Question Number : Yes
Single Line Question Option : No Option Orientation : Vertical

Correct Marks : 1 Wrong Marks : 0.25

100 men can make 60 chairs in 4 days working 2 hours a day. How many men are required to make 120 chairs in 10 days working 4 hours a day?

Options :

1. ✘ 28 men
2. ✘ 30 men
3. ✔ 40 men
4. ✘ 34 men

Question Number : 110 Question Id : 5459276574 Question Type : MCQ Option Shuffling : Yes Display Question Number : Yes
Single Line Question Option : No Option Orientation : Vertical

Correct Marks : 1 Wrong Marks : 0.25

100 पुरुष 4 दिन में प्रतिदिन 2 घंटे कार्य करके 60 कुर्सियाँ बना सकते हैं। 10 दिन में प्रतिदिन 4 घंटे कार्य करके 120 कुर्सियाँ बनाने के लिए कितने पुरुषों की जरूरत है?

Options :

1. ✘ 28 पुरुष
2. ✘ 30 पुरुष
3. ✔ 40 पुरुष
4. ✘ 34 पुरुष

Question Number : 111 Question Id : 5459276575 Question Type : MCQ Option Shuffling : Yes Display Question Number : Yes
Single Line Question Option : No Option Orientation : Vertical

Correct Marks : 1 Wrong Marks : 0.25

A can complete a work alone in 8 days. B can complete the same work alone in 12 days. C alone complete the same work in 16 days. They complete the work in 3 days with the help of D. If they get Rs 12000 for the work, then how much money does the D get?

Options :

1. ✘ Rs 2500
2. ✘ Rs 2750
3. ✔ Rs 2250
4. ✘ Rs 3000

Question Number : 111 Question Id : 5459276575 Question Type : MCQ Option Shuffling : Yes Display Question Number : Yes
Single Line Question Option : No Option Orientation : Vertical

Correct Marks : 1 Wrong Marks : 0.25

A एक कार्य को अकेला 8 दिन में कर सकता है। B उसी कार्य को अकेला 12 दिन में कर सकता है। C उसी कार्य को अकेला 16 दिन में कर सकता है। D की सहायता से वह कार्य को 3 दिन में खत्म कर सकते हैं। यदि उन्हें 12000 रुपये मिलते हैं, तो D को कितने पैसे मिले?

Options :

1. ✘ 2500 रुपये
2. ✘ 2750 रुपये
3. ✔ 2250 रुपये
4. ✘ 3000 रुपये

Question Number : 112 Question Id : 5459276576 Question Type : MCQ Option Shuffling : Yes Display Question Number : Yes
Single Line Question Option : No Option Orientation : Vertical

Correct Marks : 1 Wrong Marks : 0.25

The length, breadth and height of a cuboid is 12 cm, 9 cm and 8 cm respectively. What is the length of the longest diagonal of the cuboid?

Options :

1. ✘ 16 cm
2. ✘ 14.5 cm
3. ✘ 13 cm
4. ✔ 17 cm

Question Number : 112 Question Id : 5459276576 Question Type : MCQ Option Shuffling : Yes Display Question Number : Yes
Single Line Question Option : No Option Orientation : Vertical

Correct Marks : 1 Wrong Marks : 0.25

एक घनाभ की लम्बाई, चौड़ाई तथा ऊँचाई 12 से.मी., 9 से.मी. तथा 8 से.मी. है। घनाभ के सबसे लम्बे विकर्ण की लम्बाई क्या है?

Options :

1. ✘ 16 से.मी.
2. ✘ 14.5 से.मी.
3. ✘ 13 से.मी.
4. ✔ 17 से.मी.

Question Number : 113 Question Id : 5459276577 Question Type : MCQ Option Shuffling : Yes Display Question Number : Yes
Single Line Question Option : No Option Orientation : Vertical

Correct Marks : 1 Wrong Marks : 0.25

Two cubes each of edge 24 cm are combined to form a single cuboid. What is the volume of the new cuboid?

Options :

1. ✘ 25678 cm²
2. ✔ 27648 cm²
3. ✘ 13824 cm²
4. ✘ 17688 cm²

Question Number : 113 Question Id : 5459276577 Question Type : MCQ Option Shuffling : Yes Display Question Number : Yes
Single Line Question Option : No Option Orientation : Vertical

Correct Marks : 1 Wrong Marks : 0.25

दो घन, जिनकी प्रत्येक भुजा 24 से.मी. है, को संयुक्त करके एक घनाभ बनाया जाता है। नये घनाभ का आयतन क्या है?

Options :

1. ✘ 25678 से.मी.²
2. ✔ 27648 से.मी.²

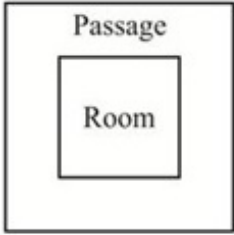
3. ✘ 13824 से.मी.²

4. ✘ 17668 से.मी.²

Question Number : 114 Question Id : 5459276578 Question Type : MCQ Option Shuffling : Yes Display Question Number : Yes
Single Line Question Option : No Option Orientation : Vertical

Correct Marks : 1 Wrong Marks : 0.25

A square room is surrounded by a passage of width 4 metres as shown in the figure. If the area of the passage is 128 m², then what is the area of the room?



Options :

1. ✔ 16 m²

2. ✘ 24 m²

3. ✘ 36 m²

4. ✘ 64 m²

Question Number : 114 Question Id : 5459276578 Question Type : MCQ Option Shuffling : Yes Display Question Number : Yes
Single Line Question Option : No Option Orientation : Vertical

Correct Marks : 1 Wrong Marks : 0.25

एक वर्गाकार कमरा 4 मीटर चौड़े एक रास्ते से घिरा है। यदि रास्ते का क्षेत्रफल 128 मीटर² है, तो कमरे का क्षेत्रफल क्या है?



Options :

1. ✔ 16 मी.²

2. ✘ 24 मी.²

3. ✘ 36 मी.²

4. ✘ 64 मी.²

Question Number : 115 Question Id : 5459276579 Question Type : MCQ Option Shuffling : Yes Display Question Number : Yes Single Line Question Option : No Option Orientation : Vertical

Correct Marks : 1 Wrong Marks : 0.25

The pie chart given below shows the number of movies released on different weekends of a month. The number is shown as a percentage of total movies released in the month.



If the total number of movies released in the month are 200, then the number of movies released in W4 is how much more than the movies released in W1?

Options :

- ✘ 8
- ✘ 12
- ✔ 16
- ✘ 20

Question Number : 115 Question Id : 5459276579 Question Type : MCQ Option Shuffling : Yes Display Question Number : Yes Single Line Question Option : No Option Orientation : Vertical

Correct Marks : 1 Wrong Marks : 0.25

नीचे दिया गया वृत्त चित्र महीने के विभिन्न सप्ताह के अंत में रिलीज्ड फिल्मों की संख्या को दर्शाता है। संख्या को, एक महीने में रिलीज्ड कुल फिल्मों के प्रतिशत के रूप में दर्शाया गया है।



यदि एक महीने में रिलीज्ड फिल्मों की कुल संख्या 200 है, तो W4 में रिलीज्ड फिल्मों की संख्या W1 में रिलीज्ड फिल्मों की संख्या से कितनी अधिक है?

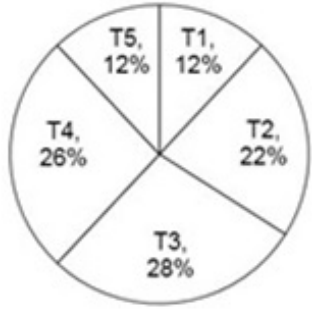
Options :

- ✘ 8
- ✘ 12
- ✔ 16
- ✘ 20

Question Number : 116 Question Id : 5459276580 Question Type : MCQ Option Shuffling : Yes Display Question Number : Yes
Single Line Question Option : No Option Orientation : Vertical

Correct Marks : 1 Wrong Marks : 0.25

The pie chart given below shows the expenses of family on different things. The expenses are shown as a percentage of total expenses of the family.



What is the difference in central angle made by sector for T1 and T3?

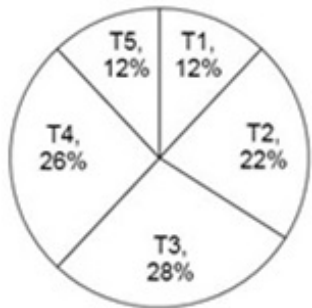
Options :

- ✓ 57.6°
- ✗ 67.6°
- ✗ 77.6°
- ✗ 87.6°

Question Number : 116 Question Id : 5459276580 Question Type : MCQ Option Shuffling : Yes Display Question Number : Yes
Single Line Question Option : No Option Orientation : Vertical

Correct Marks : 1 Wrong Marks : 0.25

नीचे दिया गया वृत्त चित्र विभिन्न वस्तुओं पर परिवार के खर्चों को दर्शाता है। खर्चों को परिवार के कुल खर्चों के प्रतिशत के रूप में दर्शाया गया है।



T1 तथा T3 के खण्ड द्वारा बनाये गये केंद्रीय कोण में अंतर क्या है?

Options :

- ✓ 57.6°
- ✗ 67.6°
- ✗ 77.6°
- ✗ 87.6°

Question Number : 117 Question Id : 5459276581 Question Type : MCQ Option Shuffling : Yes Display Question Number : Yes
Single Line Question Option : No Option Orientation : Vertical

Correct Marks : 1 Wrong Marks : 0.25

The table given below shows the number of questions in different sets.

Set	Number of questions
S1	54
S2	56
S3	60
S4	62
S5	66
S6	72

The number of questions in set 1 is how much percent less than the number of questions in set 4?

Options :

- ✘ 10.9 percent
- ✔ 12.9 percent
- ✘ 14.9 percent
- ✘ 0.169

Question Number : 117 Question Id : 5459276581 Question Type : MCQ Option Shuffling : Yes Display Question Number : Yes
Single Line Question Option : No Option Orientation : Vertical

Correct Marks : 1 Wrong Marks : 0.25

नीचे दिया गया तालिका विभिन्न सेट में प्रश्नों की संख्या को दर्शाती है।

सेट	प्रश्नों की संख्या
S1	54
S2	56
S3	60
S4	62
S5	66
S6	72

सेट 1 में प्रश्नों की संख्या सेट 4 में प्रश्नों की संख्या से कितना प्रतिशत कम है?

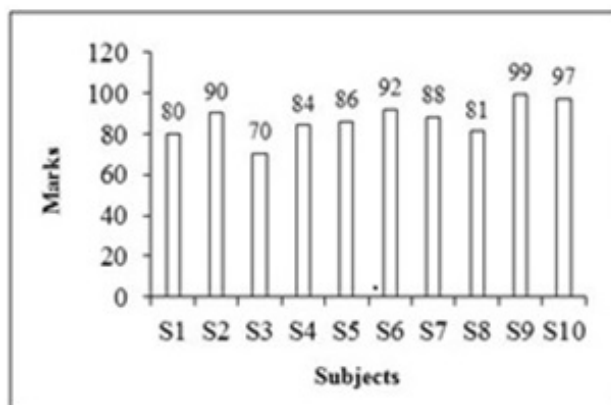
Options :

- ✘ 10.9 प्रतिशत
- ✔ 12.9 प्रतिशत
- ✘ 14.9 प्रतिशत
- ✘ 16.9 प्रतिशत

Question Number : 118 Question Id : 5459276582 Question Type : MCQ Option Shuffling : Yes Display Question Number : Yes
Single Line Question Option : No Option Orientation : Vertical

Correct Marks : 1 Wrong Marks : 0.25

The bar graph given below shows the marks obtained by a student in different subjects.



What are the average marks obtained by student per subject?

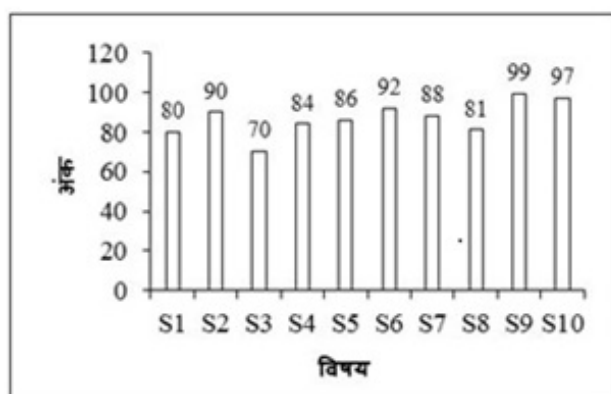
Options :

- ✘ 82.7
- ✘ 84.7
- ✔ 86.7
- ✘ 87.7

Question Number : 118 Question Id : 5459276582 Question Type : MCQ Option Shuffling : Yes Display Question Number : Yes Single Line Question Option : No Option Orientation : Vertical

Correct Marks : 1 Wrong Marks : 0.25

नीचे दिया गया दण्ड चित्र विभिन्न विषयों में एक छात्र द्वारा प्राप्त अंकों को दर्शाता है।



प्रति विषय छात्र द्वारा प्राप्त औसत अंक क्या है?

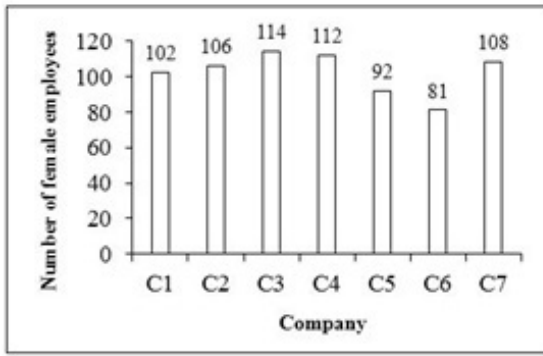
Options :

- ✘ 82.7
- ✘ 84.7
- ✔ 86.7
- ✘ 87.7

Question Number : 119 Question Id : 5459276583 Question Type : MCQ Option Shuffling : Yes Display Question Number : Yes Single Line Question Option : No Option Orientation : Vertical

Correct Marks : 1 Wrong Marks : 0.25

The bar graph given below shows the number of female employees in different companies.



The number of female employees in C7 is how much percent more than the female employees in C5?

Note: For this question, discrepancy is found in question/answer. So, this question is ignored for all candidates.

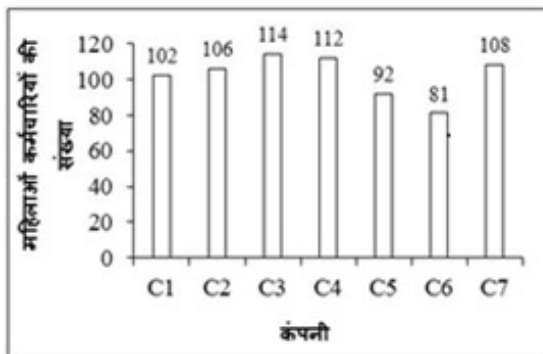
Options :

1. 0.1739
2. 0.2039
3. 0.2339
4. 0.2639

Question Number : 119 Question Id : 5459276583 Question Type : MCQ Option Shuffling : Yes Display Question Number : Yes Single Line Question Option : No Option Orientation : Vertical

Correct Marks : 1 Wrong Marks : 0.25

नीचे दिया गया दण्ड चित्र विभिन्न कंपनियों में महिला कर्मचारियों की संख्या को दर्शाता है।



C7 में महिला कर्मचारियों की संख्या C5 में महिला कर्मचारियों से कितना प्रतिशत अधिक है?

Note: For this question, discrepancy is found in question/answer. So, this question is ignored for all candidates.

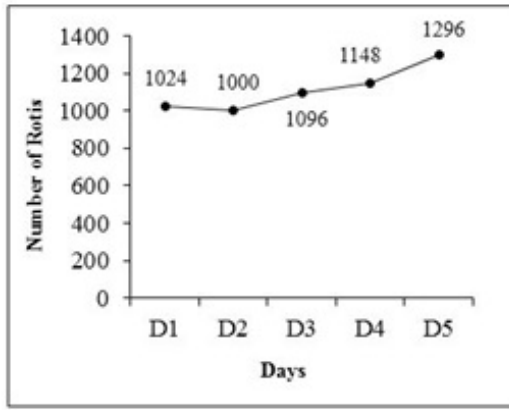
Options :

1. 0.1739
2. 0.2039
3. 0.2339
4. 0.2639

Question Number : 120 Question Id : 5459276584 Question Type : MCQ Option Shuffling : Yes Display Question Number : Yes Single Line Question Option : No Option Orientation : Vertical

Correct Marks : 1 Wrong Marks : 0.25

The line graph given below shows the number of rotis made by a rotimaker in a hotel on different days.



The rotis made on D5 is what percent more than the rotis made on D1?

Note: For this question, discrepancy is found in question/answer. So, this question is ignored for all candidates.

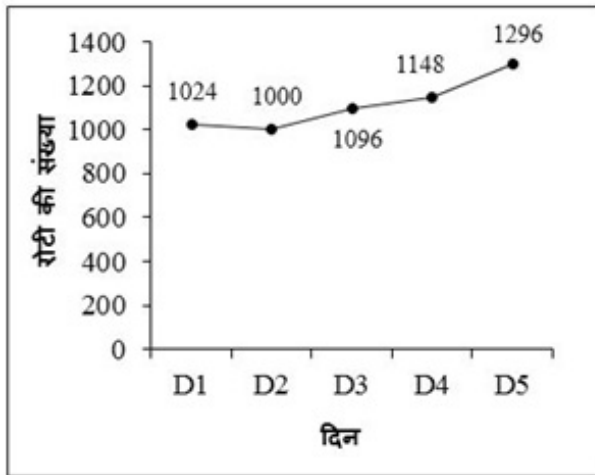
Options :

1. 0.1856
2. 0.2256
3. 0.2456
4. 0.2656

Question Number : 120 Question Id : 5459276584 Question Type : MCQ Option Shuffling : Yes Display Question Number : Yes Single Line Question Option : No Option Orientation : Vertical

Correct Marks : 1 Wrong Marks : 0.25

नीचे दिया गया रेखा चित्र विभिन्न दिनों पर एक होटल में रोटीमेकर द्वारा बनायी गयी रोटीयों की संख्या को दर्शाता है।



D5 में बनायी गयी रोटीयाँ D1 में बनायी गयी रोटीयों से कितने प्रतिशत अधिक है?

Note: For this question, discrepancy is found in question/answer. So, this question is ignored for all candidates.

Options :

1. 0.1856
2. 0.2256
3. 0.2456
4. 0.2656

Group Number :	7
Group Id :	545927327
Group Maximum Duration :	0
Group Minimum Duration :	0
Revisit allowed for view? :	No
Revisit allowed for edit? :	No
Break time:	0
Group Marks:	20
Revisit allowed for group Instructions? :	Yes
Maximum Instruction Time:	0
Minimum Instruction Time:	0

General English1

Section Id :	545927327
Section Number :	1
Section type :	Online
Mandatory or Optional:	Mandatory
Number of Questions:	20
Number of Questions to be attempted:	20
Section Marks:	20
Display Number Panel:	Yes
Group All Questions:	No

Sub-Section Number:	1
Sub-Section Id:	545927391
Question Shuffling Allowed :	Yes

Question Number : 121 Question Id : 5459276585 Question Type : MCQ Option Shuffling : Yes Display Question Number : Yes
Single Line Question Option : No Option Orientation : Vertical

Correct Marks : 1 Wrong Marks : 0.25

Find the part of the given sentence that has an error in it. If there is no error, choose 'No error'.

The teacher (1) / said that he (2) / was busy then (3) /. No error (4)

Options :

1. ✘ 1
2. ✘ 2
3. ✘ 3
4. ✔ 4

Question Number : 121 Question Id : 5459276585 Question Type : MCQ Option Shuffling : Yes Display Question Number : Yes
Single Line Question Option : No Option Orientation : Vertical

Correct Marks : 1 Wrong Marks : 0.25

Find the part of the given sentence that has an error in it. If there is no error, choose 'No error'.

The teacher (1) / said that he (2) / was busy then (3) /. No error (4)

Options :

1. ✘ 1
2. ✘ 2
3. ✘ 3

4. ✓ 4

Question Number : 122 Question Id : 5459276586 Question Type : MCQ Option Shuffling : Yes Display Question Number : Yes
Single Line Question Option : No Option Orientation : Vertical

Correct Marks : 1 Wrong Marks : 0.25

Find the part of the given sentence that has an error in it. If there is no error, choose 'No error'.

Rama told the (1) / girl that he know (2) / her and her aunt (3) /. No error (4)

Options :

1. ✗ 1

2. ✓ 2

3. ✗ 3

4. ✗ 4

Question Number : 122 Question Id : 5459276586 Question Type : MCQ Option Shuffling : Yes Display Question Number : Yes
Single Line Question Option : No Option Orientation : Vertical

Correct Marks : 1 Wrong Marks : 0.25

Find the part of the given sentence that has an error in it. If there is no error, choose 'No error'.

Rama told the (1) / girl that he know (2) / her and her aunt (3) /. No error (4)

Options :

1. ✗ 1

2. ✓ 2

3. ✗ 3

4. ✗ 4

Question Number : 123 Question Id : 5459276587 Question Type : MCQ Option Shuffling : Yes Display Question Number : Yes
Single Line Question Option : No Option Orientation : Vertical

Correct Marks : 1 Wrong Marks : 0.25

Find the part of the given sentence that has an error in it. If there is no error, choose 'No error'.

I told the boys (1) / that they should (2) / do ours duty (3) / No error (4)

Options :

1. ✗ 1

2. ✗ 2

3. ✓ 3

4. ✗ 4

Question Number : 123 Question Id : 5459276587 Question Type : MCQ Option Shuffling : Yes Display Question Number : Yes
Single Line Question Option : No Option Orientation : Vertical

Correct Marks : 1 Wrong Marks : 0.25

Find the part of the given sentence that has an error in it. If there is no error, choose 'No error'.

I told the boys (1) / that they should (2) / do ours duty (3) / No error (4)

Options :

1. ✗ 1

2. ✗ 2

3. ✓ 3

4. ✗ 4

Question Number : 124 Question Id : 5459276588 Question Type : MCQ Option Shuffling : Yes Display Question Number : Yes
Single Line Question Option : No Option Orientation : Vertical

Correct Marks : 1 Wrong Marks : 0.25

Find the part of the given sentence that has an error in it. If there is no error, choose 'No error'.

She did not (1) / tell me what (2) / her plans are (3) / . No error (4)

Options :

1. ✘ 1

2. ✘ 2

3. ✔ 3

4. ✘ 4

Question Number : 124 Question Id : 5459276588 Question Type : MCQ Option Shuffling : Yes Display Question Number : Yes
Single Line Question Option : No Option Orientation : Vertical

Correct Marks : 1 Wrong Marks : 0.25

Find the part of the given sentence that has an error in it. If there is no error, choose 'No error'.

She did not (1) / tell me what (2) / her plans are (3) / . No error (4)

Options :

1. ✘ 1

2. ✘ 2

3. ✔ 3

4. ✘ 4

Question Number : 125 Question Id : 5459276589 Question Type : MCQ Option Shuffling : Yes Display Question Number : Yes
Single Line Question Option : No Option Orientation : Vertical

Correct Marks : 1 Wrong Marks : 0.25

Find the part of the given sentence that has an error in it. If there is no error, choose 'No error'.

The master taught (1) the boys that (2) / honesty was the best policy (3) / . No error (4)

Options :

1. ✘ 1

2. ✘ 2

3. ✔ 3

4. ✘ 4

Question Number : 125 Question Id : 5459276589 Question Type : MCQ Option Shuffling : Yes Display Question Number : Yes
Single Line Question Option : No Option Orientation : Vertical

Correct Marks : 1 Wrong Marks : 0.25

Find the part of the given sentence that has an error in it. If there is no error, choose 'No error'.

The master taught (1) the boys that (2) / honesty was the best policy (3) / . No error (4)

Options :

1. ✘ 1

2. ✘ 2

3. ✔ 3

4. ✘ 4

Question Number : 126 Question Id : 5459276590 Question Type : MCQ Option Shuffling : Yes Display Question Number : Yes
Single Line Question Option : No Option Orientation : Vertical

Correct Marks : 1 Wrong Marks : 0.25

Improve the bracketed part of the sentence.

Bonded labour (has been) now almost a thing of the past.

Options :

1. ✘ had been
2. ✘ was
3. ✔ is
4. ✘ No Improvement

Question Number : 126 Question Id : 5459276590 Question Type : MCQ Option Shuffling : Yes Display Question Number : Yes
Single Line Question Option : No Option Orientation : Vertical

Correct Marks : 1 Wrong Marks : 0.25

Improve the bracketed part of the sentence.

Bonded labour (has been) now almost a thing of the past.

Options :

1. ✘ had been
2. ✘ was
3. ✔ is
4. ✘ No Improvement

Question Number : 127 Question Id : 5459276591 Question Type : MCQ Option Shuffling : Yes Display Question Number : Yes
Single Line Question Option : No Option Orientation : Vertical

Correct Marks : 1 Wrong Marks : 0.25

Improve the bracketed part of the sentence.

(Their) shoes are mine.

Options :

1. ✔ Those
2. ✘ That
3. ✘ Them
4. ✘ No Improvement

Question Number : 127 Question Id : 5459276591 Question Type : MCQ Option Shuffling : Yes Display Question Number : Yes
Single Line Question Option : No Option Orientation : Vertical

Correct Marks : 1 Wrong Marks : 0.25

Improve the bracketed part of the sentence.

(Their) shoes are mine.

Options :

1. ✔ Those
2. ✘ That
3. ✘ Them
4. ✘ No Improvement

Question Number : 128 Question Id : 5459276592 Question Type : MCQ Option Shuffling : Yes Display Question Number : Yes
Single Line Question Option : No Option Orientation : Vertical

Correct Marks : 1 Wrong Marks : 0.25

Improve the bracketed part of the sentence.

The stranger asked the little girl (what her name was).

Options :

1. ✘ what is her name
2. ✘ what her name is
3. ✘ what was her name
4. ✔ No Improvement

Question Number : 128 Question Id : 5459276592 Question Type : MCQ Option Shuffling : Yes Display Question Number : Yes
Single Line Question Option : No Option Orientation : Vertical

Correct Marks : 1 Wrong Marks : 0.25

Improve the bracketed part of the sentence.

The stranger asked the little girl (what her name was).

Options :

1. ✘ what is her name
2. ✘ what her name is
3. ✘ what was her name
4. ✔ No Improvement

Question Number : 129 Question Id : 5459276593 Question Type : MCQ Option Shuffling : Yes Display Question Number : Yes
Single Line Question Option : No Option Orientation : Vertical

Correct Marks : 1 Wrong Marks : 0.25

You are abstained (to speak) ill of others.

Options :

1. ✘ to speaking
2. ✘ of speak
3. ✔ from speaking
4. ✘ No Improvement

Question Number : 129 Question Id : 5459276593 Question Type : MCQ Option Shuffling : Yes Display Question Number : Yes
Single Line Question Option : No Option Orientation : Vertical

Correct Marks : 1 Wrong Marks : 0.25

You are abstained (to speak) ill of others.

Options :

1. ✘ to speaking
2. ✘ of speak
3. ✔ from speaking
4. ✘ No Improvement

Question Number : 130 Question Id : 5459276594 Question Type : MCQ Option Shuffling : Yes Display Question Number : Yes
Single Line Question Option : No Option Orientation : Vertical

Correct Marks : 1 Wrong Marks : 0.25

Improve the bracketed part of the sentence.

He (works hard) succeeds.

Options :

1. ✔ who works hard
2. ✘ work hard
3. ✘ who will work hard
4. ✘ No Improvement

Question Number : 130 Question Id : 5459276594 Question Type : MCQ Option Shuffling : Yes Display Question Number : Yes
Single Line Question Option : No Option Orientation : Vertical

Correct Marks : 1 Wrong Marks : 0.25

Improve the bracketed part of the sentence.

He (works hard) succeeds.

Options :

1. ✓ who works hard
2. ✗ work hard
3. ✗ who will work hard
4. ✗ No Improvement

Question Number : 131 Question Id : 5459276595 Question Type : MCQ Option Shuffling : Yes Display Question Number : Yes
Single Line Question Option : No Option Orientation : Vertical

Correct Marks : 1 Wrong Marks : 0.25

A sentence has been given with a blank to be filled with an appropriate word. Choose the correct alternative.

This boy is stronger _____ Harsh.

Options :

1. ✗ then
2. ✗ that
3. ✓ than
4. ✗ this

Question Number : 131 Question Id : 5459276595 Question Type : MCQ Option Shuffling : Yes Display Question Number : Yes
Single Line Question Option : No Option Orientation : Vertical

Correct Marks : 1 Wrong Marks : 0.25

A sentence has been given with a blank to be filled with an appropriate word. Choose the correct alternative.

This boy is stronger _____ Harsh.

Options :

1. ✗ then
2. ✗ that
3. ✓ than
4. ✗ this

Question Number : 132 Question Id : 5459276596 Question Type : MCQ Option Shuffling : Yes Display Question Number : Yes
Single Line Question Option : No Option Orientation : Vertical

Correct Marks : 1 Wrong Marks : 0.25

A sentence has been given with a blank to be filled with an appropriate word. Choose the correct alternative.

He comes here _____ day.

Options :

1. ✓ every
2. ✗ all
3. ✗ few
4. ✗ much

Question Number : 132 Question Id : 5459276596 Question Type : MCQ Option Shuffling : Yes Display Question Number : Yes
Single Line Question Option : No Option Orientation : Vertical

Correct Marks : 1 Wrong Marks : 0.25

A sentence has been given with a blank to be filled with an appropriate word. Choose the correct alternative.

He comes here _____ day.

Options :

1. ✓ every
2. ✗ all
3. ✗ few
4. ✗ much

Question Number : 133 Question Id : 5459276597 Question Type : MCQ Option Shuffling : Yes Display Question Number : Yes Single Line Question Option : No Option Orientation : Vertical

Correct Marks : 1 Wrong Marks : 0.25

A sentence has been given with a blank to be filled with an appropriate word. Choose the correct alternative.

The child fell _____ from a great height.

Options :

1. ✗ up
2. ✓ down
3. ✗ over
4. ✗ under

Question Number : 133 Question Id : 5459276597 Question Type : MCQ Option Shuffling : Yes Display Question Number : Yes Single Line Question Option : No Option Orientation : Vertical

Correct Marks : 1 Wrong Marks : 0.25

A sentence has been given with a blank to be filled with an appropriate word. Choose the correct alternative.

The child fell _____ from a great height.

Options :

1. ✗ up
2. ✓ down
3. ✗ over
4. ✗ under

Question Number : 134 Question Id : 5459276598 Question Type : MCQ Option Shuffling : Yes Display Question Number : Yes Single Line Question Option : No Option Orientation : Vertical

Correct Marks : 1 Wrong Marks : 0.25

A sentence has been given with a blank to be filled with an appropriate word. Choose the correct alternative.

Every man has _____ duties.

Options :

1. ✗ himself
2. ✗ him
3. ✓ his
4. ✗ her

Question Number : 134 Question Id : 5459276598 Question Type : MCQ Option Shuffling : Yes Display Question Number : Yes Single Line Question Option : No Option Orientation : Vertical

Correct Marks : 1 Wrong Marks : 0.25

A sentence has been given with a blank to be filled with an appropriate word. Choose the correct alternative.

Every man has _____ duties.

Options :

1. ✘ himself
2. ✘ him
3. ✔ his
4. ✘ her

Question Number : 135 Question Id : 5459276599 Question Type : MCQ Option Shuffling : Yes Display Question Number : Yes
Single Line Question Option : No Option Orientation : Vertical

Correct Marks : 1 Wrong Marks : 0.25

A sentence has been given with a blank to be filled with an appropriate word. Choose the correct alternative.

I hate _____ things.

Options :

1. ✘ each
2. ✘ every
3. ✔ such
4. ✘ all

Question Number : 135 Question Id : 5459276599 Question Type : MCQ Option Shuffling : Yes Display Question Number : Yes
Single Line Question Option : No Option Orientation : Vertical

Correct Marks : 1 Wrong Marks : 0.25

A sentence has been given with a blank to be filled with an appropriate word. Choose the correct alternative.

I hate _____ things.

Options :

1. ✘ each
2. ✘ every
3. ✔ such
4. ✘ all

Question Number : 136 Question Id : 5459276600 Question Type : MCQ Option Shuffling : Yes Display Question Number : Yes
Single Line Question Option : No Option Orientation : Vertical

Correct Marks : 1 Wrong Marks : 0.25

A sentence has been given with a blank to be filled with an appropriate word. Choose the correct alternative.

You _____ no sense.

Options :

1. ✘ has
2. ✘ are
3. ✘ were
4. ✔ have

Question Number : 136 Question Id : 5459276600 Question Type : MCQ Option Shuffling : Yes Display Question Number : Yes
Single Line Question Option : No Option Orientation : Vertical

Correct Marks : 1 Wrong Marks : 0.25

A sentence has been given with a blank to be filled with an appropriate word. Choose the correct alternative.

You _____ no sense.

Options :

1. ✘ has
2. ✘ are
3. ✘ were
4. ✔ have

Question Number : 137 Question Id : 5459276601 Question Type : MCQ Option Shuffling : Yes Display Question Number : Yes
Single Line Question Option : No Option Orientation : Vertical

Correct Marks : 1 Wrong Marks : 0.25

A sentence has been given with a blank to be filled with an appropriate word. Choose the correct alternative.

The father showed _____ patience.

Options :

1. ✘ few
2. ✔ much
3. ✘ any
4. ✘ whole

Question Number : 137 Question Id : 5459276601 Question Type : MCQ Option Shuffling : Yes Display Question Number : Yes
Single Line Question Option : No Option Orientation : Vertical

Correct Marks : 1 Wrong Marks : 0.25

A sentence has been given with a blank to be filled with an appropriate word. Choose the correct alternative.

The father showed _____ patience.

Options :

1. ✘ few
2. ✔ much
3. ✘ any
4. ✘ whole

Question Number : 138 Question Id : 5459276602 Question Type : MCQ Option Shuffling : Yes Display Question Number : Yes
Single Line Question Option : No Option Orientation : Vertical

Correct Marks : 1 Wrong Marks : 0.25

A sentence has been given with a blank to be filled with an appropriate word. Choose the correct alternative.

He did not eat _____ rice.

Options :

1. ✔ any
2. ✘ no
3. ✘ several
4. ✘ must

Question Number : 138 Question Id : 5459276602 Question Type : MCQ Option Shuffling : Yes Display Question Number : Yes
Single Line Question Option : No Option Orientation : Vertical

Correct Marks : 1 Wrong Marks : 0.25

A sentence has been given with a blank to be filled with an appropriate word. Choose the correct alternative.

He did not eat _____ rice.

Options :

1. ✔ any

2. ✘ no
3. ✘ several
4. ✘ must

Question Number : 139 Question Id : 5459276603 Question Type : MCQ Option Shuffling : Yes Display Question Number : Yes Single Line Question Option : No Option Orientation : Vertical

Correct Marks : 1 Wrong Marks : 0.25

The question below consists of a set of labeled sentences. Out of the four options given, select the most logical order of the sentences to form a coherent paragraph.

P: the journey towards
Q: landing on the moon
R: the moon was more
S: thrilling than the

Options :

1. ✘ PQRS
2. ✘ SRQP
3. ✘ SQRP
4. ✔ PRSQ

Question Number : 139 Question Id : 5459276603 Question Type : MCQ Option Shuffling : Yes Display Question Number : Yes Single Line Question Option : No Option Orientation : Vertical

Correct Marks : 1 Wrong Marks : 0.25

The question below consists of a set of labeled sentences. Out of the four options given, select the most logical order of the sentences to form a coherent paragraph.

P: the journey towards
Q: landing on the moon
R: the moon was more
S: thrilling than the

Options :

1. ✘ PQRS
2. ✘ SRQP
3. ✘ SQRP
4. ✔ PRSQ

Question Number : 140 Question Id : 5459276604 Question Type : MCQ Option Shuffling : Yes Display Question Number : Yes Single Line Question Option : No Option Orientation : Vertical

Correct Marks : 1 Wrong Marks : 0.25

The question below consists of a set of labeled sentences. Out of the four options given, select the most logical order of the sentences to form a coherent paragraph.

P: said that more things
Q: therefore it is rightly
R: the world of dreams
S: are wrought by prayer than

Options :

1. ✔ QPSR
2. ✘ PQRS
3. ✘ SRQP
4. ✘ QRSP

Question Number : 140 Question Id : 5459276604 Question Type : MCQ Option Shuffling : Yes Display Question Number : Yes
Single Line Question Option : No Option Orientation : Vertical

Correct Marks : 1 Wrong Marks : 0.25

The question below consists of a set of labeled sentences. Out of the four options given, select the most logical order of the sentences to form a coherent paragraph.

P: said that more things

Q: therefore it is rightly

R: the world of dreams

S: are wrought by prayer than

Options :

1. ✓ QPSR

2. ✗ PQRS

3. ✗ SRQP

4. ✗ QRSP

General English2

Group Number :	8
Group Id :	545927328
Group Maximum Duration :	0
Group Minimum Duration :	0
Revisit allowed for view? :	No
Revisit allowed for edit? :	No
Break time:	0
Group Marks:	20
Revisit allowed for group Instructions? :	Yes
Maximum Instruction Time:	0
Minimum Instruction Time:	0

General English2

Section Id :	545927328
Section Number :	1
Section type :	Online
Mandatory or Optional:	Mandatory
Number of Questions:	16
Number of Questions to be attempted:	16
Section Marks:	20
Display Number Panel:	Yes
Group All Questions:	No

Sub-Section Number:	1
Sub-Section Id:	545927392
Question Shuffling Allowed :	Yes

Question Number : 141 Question Id : 5459276605 Question Type : MCQ Option Shuffling : Yes Display Question Number : Yes
Single Line Question Option : No Option Orientation : Vertical

Correct Marks : 1 Wrong Marks : 0.25

The question below consists of a set of labeled sentences. Out of the four options given, select the most logical order of the sentences to form a coherent paragraph.

P: human life is a tale of errors and follies.

Q: we all commit errors and mistakes out of ignorance or inexperience

R: nobody is infallible.

S: in the process of acquiring experience, man often stumbles and falls down.

Options :

1. ✘ PQRS
2. ✘ RSPQ
3. ✔ PRQS
4. ✘ PSQR

Question Number : 141 Question Id : 5459276605 Question Type : MCQ Option Shuffling : Yes Display Question Number : Yes Single Line Question Option : No Option Orientation : Vertical

Correct Marks : 1 Wrong Marks : 0.25

The question below consists of a set of labeled sentences. Out of the four options given, select the most logical order of the sentences to form a coherent paragraph.

P: human life is a tale of errors and follies.

Q: we all commit errors and mistakes out of ignorance or inexperience

R: nobody is infallible.

S: in the process of acquiring experience, man often stumbles and falls down.

Options :

1. ✘ PQRS
2. ✘ RSPQ
3. ✔ PRQS
4. ✘ PSQR

Question Number : 142 Question Id : 5459276606 Question Type : MCQ Option Shuffling : Yes Display Question Number : Yes Single Line Question Option : No Option Orientation : Vertical

Correct Marks : 1 Wrong Marks : 0.25

Choose the word that means the same as the given word.

Abnormal

Options :

1. ✔ Strange
2. ✘ Normal
3. ✘ Conforming
4. ✘ Typical

Question Number : 142 Question Id : 5459276606 Question Type : MCQ Option Shuffling : Yes Display Question Number : Yes Single Line Question Option : No Option Orientation : Vertical

Correct Marks : 1 Wrong Marks : 0.25

Choose the word that means the same as the given word.

Abnormal

Options :

1. ✔ Strange
2. ✘ Normal
3. ✘ Conforming

4. ✘ Typical

Question Number : 143 Question Id : 5459276607 Question Type : MCQ Option Shuffling : Yes Display Question Number : Yes
Single Line Question Option : No Option Orientation : Vertical

Correct Marks : 1 Wrong Marks : 0.25

Choose the word that is opposite in meaning to the given word.

Persist

Options :

1. ✘ Demur
2. ✘ Falter
3. ✘ Dismantle
4. ✔ Cease

Question Number : 143 Question Id : 5459276607 Question Type : MCQ Option Shuffling : Yes Display Question Number : Yes
Single Line Question Option : No Option Orientation : Vertical

Correct Marks : 1 Wrong Marks : 0.25

Choose the word that is opposite in meaning to the given word.

Persist

Options :

1. ✘ Demur
2. ✘ Falter
3. ✘ Dismantle
4. ✔ Cease

Question Number : 144 Question Id : 5459276608 Question Type : MCQ Option Shuffling : Yes Display Question Number : Yes
Single Line Question Option : No Option Orientation : Vertical

Correct Marks : 1 Wrong Marks : 0.25

Choose the word that means the same as the given word.

Feud

Options :

1. ✘ Harmony
2. ✘ Peace
3. ✘ Calmness
4. ✔ Strife

Question Number : 144 Question Id : 5459276608 Question Type : MCQ Option Shuffling : Yes Display Question Number : Yes
Single Line Question Option : No Option Orientation : Vertical

Correct Marks : 1 Wrong Marks : 0.25

Choose the word that means the same as the given word.

Feud

Options :

1. ✘ Harmony
2. ✘ Peace
3. ✘ Calmness
4. ✔ Strife

Question Number : 145 Question Id : 5459276609 Question Type : MCQ Option Shuffling : Yes Display Question Number : Yes
Single Line Question Option : No Option Orientation : Vertical

Correct Marks : 1 Wrong Marks : 0.25

Choose the word that means the same as the given word.

Appetizing

Options :

1. ✘ Tedious
2. ✘ Repulsive
3. ✔ Pleasing
4. ✘ Melting

Question Number : 145 Question Id : 5459276609 Question Type : MCQ Option Shuffling : Yes Display Question Number : Yes
Single Line Question Option : No Option Orientation : Vertical

Correct Marks : 1 Wrong Marks : 0.25

Choose the word that means the same as the given word.

Appetizing

Options :

1. ✘ Tedious
2. ✘ Repulsive
3. ✔ Pleasing
4. ✘ Melting

Question Number : 146 Question Id : 5459276610 Question Type : MCQ Option Shuffling : Yes Display Question Number : Yes
Single Line Question Option : No Option Orientation : Vertical

Correct Marks : 1 Wrong Marks : 0.25

Choose the word that is opposite in meaning to the given word.

Deceit

Options :

1. ✔ Honesty
2. ✘ Fraud
3. ✘ Treachery
4. ✘ Hatred

Question Number : 146 Question Id : 5459276610 Question Type : MCQ Option Shuffling : Yes Display Question Number : Yes
Single Line Question Option : No Option Orientation : Vertical

Correct Marks : 1 Wrong Marks : 0.25

Choose the word that is opposite in meaning to the given word.

Deceit

Options :

1. ✔ Honesty
2. ✘ Fraud
3. ✘ Treachery
4. ✘ Hatred

Question Number : 147 Question Id : 5459276611 Question Type : MCQ Option Shuffling : Yes Display Question Number : Yes
Single Line Question Option : No Option Orientation : Vertical

Correct Marks : 1 Wrong Marks : 0.25

In the given question, four words are given out of which one word is correctly spelt. Choose the correctly spelt word.

Options :

1. ✘ Concinese
2. ✘ Concince
3. ✘ Caunscience
4. ✔ Conscience

Question Number : 147 Question Id : 5459276611 Question Type : MCQ Option Shuffling : Yes Display Question Number : Yes
Single Line Question Option : No Option Orientation : Vertical

Correct Marks : 1 Wrong Marks : 0.25

In the given question, four words are given out of which one word is correctly spelt. Choose the correctly spelt word.

Options :

1. ✘ Concinese
2. ✘ Concince
3. ✘ Caunscience
4. ✔ Conscience

Question Number : 148 Question Id : 5459276612 Question Type : MCQ Option Shuffling : Yes Display Question Number : Yes
Single Line Question Option : No Option Orientation : Vertical

Correct Marks : 1 Wrong Marks : 0.25

In the given question, four words are given out of which one word is correctly spelt. Choose the correctly spelt word.

Options :

1. ✔ Definitely
2. ✘ Definatly
3. ✘ Definitly
4. ✘ Definitaly

Question Number : 148 Question Id : 5459276612 Question Type : MCQ Option Shuffling : Yes Display Question Number : Yes
Single Line Question Option : No Option Orientation : Vertical

Correct Marks : 1 Wrong Marks : 0.25

In the given question, four words are given out of which one word is correctly spelt. Choose the correctly spelt word.

Options :

1. ✔ Definitely
2. ✘ Definatly
3. ✘ Definitly
4. ✘ Definitaly

Question Number : 149 Question Id : 5459276613 Question Type : MCQ Option Shuffling : Yes Display Question Number : Yes
Single Line Question Option : No Option Orientation : Vertical

Correct Marks : 1 Wrong Marks : 0.25

In the given question, four words are given out of which one word is correctly spelt. Choose the correctly spelt word.

Options :

1. ✘ Exhilerate
2. ✘ Axhilerate

3. ✓ Exhilarate
4. ✗ Exhelerate

Question Number : 149 Question Id : 5459276613 Question Type : MCQ Option Shuffling : Yes Display Question Number : Yes Single Line Question Option : No Option Orientation : Vertical

Correct Marks : 1 Wrong Marks : 0.25

In the given question, four words are given out of which one word is correctly spelt. Choose the correctly spelt word.

Options :

1. ✗ Exhilerate
2. ✗ Axhilerate
3. ✓ Exhilarate
4. ✗ Exhelerate

Question Number : 150 Question Id : 5459276614 Question Type : MCQ Option Shuffling : Yes Display Question Number : Yes Single Line Question Option : No Option Orientation : Vertical

Correct Marks : 1 Wrong Marks : 0.25

In the following question, out of the given four alternatives, select the alternative which best expresses the meaning of the Idiom/Phrase.

In no time

Options :

1. ✗ Tasteless
2. ✓ Very soon
3. ✗ Dominating
4. ✗ In search of

Question Number : 150 Question Id : 5459276614 Question Type : MCQ Option Shuffling : Yes Display Question Number : Yes Single Line Question Option : No Option Orientation : Vertical

Correct Marks : 1 Wrong Marks : 0.25

In the following question, out of the given four alternatives, select the alternative which best expresses the meaning of the Idiom/Phrase.

In no time

Options :

1. ✗ Tasteless
2. ✓ Very soon
3. ✗ Dominating
4. ✗ In search of

Question Number : 151 Question Id : 5459276615 Question Type : MCQ Option Shuffling : Yes Display Question Number : Yes Single Line Question Option : No Option Orientation : Vertical

Correct Marks : 1 Wrong Marks : 0.25

In the following question, out of the given four alternatives, select the alternative which best expresses the meaning of the Idiom/Phrase.

In a fix

Options :

1. ✗ With all one's energy
2. ✗ Definitely
3. ✗ In an indirect way

4. ✓ In a difficult position

Question Number : 151 Question Id : 5459276615 Question Type : MCQ Option Shuffling : Yes Display Question Number : Yes
Single Line Question Option : No Option Orientation : Vertical

Correct Marks : 1 Wrong Marks : 0.25

In the following question, out of the given four alternatives, select the alternative which best expresses the meaning of the Idiom/Phrase.

In a fix

Options :

- ✗ With all one's energy
- ✗ Definitely
- ✗ In an indirect way
- ✓ In a difficult position

Question Number : 152 Question Id : 5459276616 Question Type : MCQ Option Shuffling : Yes Display Question Number : Yes
Single Line Question Option : No Option Orientation : Vertical

Correct Marks : 1 Wrong Marks : 0.25

In the following question, out of the given four alternatives, select the alternative which best expresses the meaning of the Idiom/Phrase.

In the prime of life

Options :

- ✓ In the best period of life
- ✗ Blood relations
- ✗ In writing
- ✗ At open enmity

Question Number : 152 Question Id : 5459276616 Question Type : MCQ Option Shuffling : Yes Display Question Number : Yes
Single Line Question Option : No Option Orientation : Vertical

Correct Marks : 1 Wrong Marks : 0.25

In the following question, out of the given four alternatives, select the alternative which best expresses the meaning of the Idiom/Phrase.

In the prime of life

Options :

- ✓ In the best period of life
- ✗ Blood relations
- ✗ In writing
- ✗ At open enmity

Question Number : 153 Question Id : 5459276617 Question Type : MCQ Option Shuffling : Yes Display Question Number : Yes
Single Line Question Option : No Option Orientation : Vertical

Correct Marks : 1 Wrong Marks : 0.25

Choose the word that can substitute the given sentence.

Release someone from duty or obligation

Options :

- ✗ Appointment
- ✗ Promotion
- ✓ Exonerate

4. ✖ Joining

Question Number : 153 Question Id : 5459276617 Question Type : MCQ Option Shuffling : Yes Display Question Number : Yes
Single Line Question Option : No Option Orientation : Vertical

Correct Marks : 1 Wrong Marks : 0.25

Choose the word that can substitute the given sentence.

Release someone from duty or obligation

Options :

1. ✖ Appointment
2. ✖ Promotion
3. ✔ Exonerate
4. ✖ Joining

Question Number : 154 Question Id : 5459276618 Question Type : MCQ Option Shuffling : Yes Display Question Number : Yes
Single Line Question Option : No Option Orientation : Vertical

Correct Marks : 1 Wrong Marks : 0.25

Choose the word that can substitute the given sentence.

The arrangement of events in order of their occurrence

Options :

1. ✔ Chronology
2. ✖ Anecdote
3. ✖ Randomly
4. ✖ Blasphemy

Question Number : 154 Question Id : 5459276618 Question Type : MCQ Option Shuffling : Yes Display Question Number : Yes
Single Line Question Option : No Option Orientation : Vertical

Correct Marks : 1 Wrong Marks : 0.25

Choose the word that can substitute the given sentence.

The arrangement of events in order of their occurrence

Options :

1. ✔ Chronology
2. ✖ Anecdote
3. ✖ Randomly
4. ✖ Blasphemy

Question Number : 155 Question Id : 5459276619 Question Type : MCQ Option Shuffling : Yes Display Question Number : Yes
Single Line Question Option : No Option Orientation : Vertical

Correct Marks : 1 Wrong Marks : 0.25

Choose the word that can substitute the given sentence.

Certain to happen

Options :

1. ✖ Distant
2. ✔ Inevitable
3. ✖ Infallible
4. ✖ Indelible

Question Number : 155 Question Id : 5459276619 Question Type : MCQ Option Shuffling : Yes Display Question Number : Yes
Single Line Question Option : No Option Orientation : Vertical

Correct Marks : 1 Wrong Marks : 0.25

Choose the word that can substitute the given sentence.

Certain to happen

Options :

1. ✘ Distant
2. ✔ Inevitable
3. ✘ Infallible
4. ✘ Indelible

Sub-Section Number:	2
Sub-Section Id:	545927393
Question Shuffling Allowed :	Yes

Question Id : 5459276620 Question Type : COMPREHENSION Sub Question Shuffling Allowed : Yes Group Comprehension
Questions : No

Question Numbers : (156 to 160)

Question Label : Comprehension

Read the following information carefully and answer the given questions.

There are two main approaches to the understanding of the new ethnic phenomenon. The pre-mordialist approach to ethnicity and ethnic identities considers common descent activated more easily than rational principles and organization founded upon them. The other approach is variously known as situational, subjectivist, or instrumental. Its main emphasis is on group members perceptions of being different from others and on the implications of this for that group's present status or predicament and for its prospects for the future.

These contending approaches are an aid to an explication of issues and to the undertaking of contemporary reality but they do not offer any final answers. They are often no more than exercises in the reconstruction of the past; the definition and redefinition of the situations to explain the present and stratagems and strategies for achieving the desired future. Ethnicity transcends the known boundaries of state, religion, sect, and class. It seeks to fragment established nationalities and communities and create a new one using ethnic indicators. It involves symbols –old as well as newly created– and their manipulation by competing elites.

The symbolic and cultural aspects of ethnicity are important in themselves; and they often get politicized because, in the final analysis, most ethnic conflicts are demands for a larger share of economic resources and products, and for a greater part in decision-making processes. Given identities can be questioned by individuals and groups, and their actions can result in the formation of new identities and symbol systems associated with the articulation of new interests. Ethnicity may thus lead to the redefinition of Social and cultural boundaries. Ethnic aspirations and urges have a quick silver quality, they need to be consistent and firm. This is explained by the quality of leadership of several ethnic movements. A section of the established elite may be behind them, but the elite can be pushed aside and the leadership taken over by arms wielding elements of diverse origins.

Sub questions

Question Number : 156 Question Id : 5459276621 Question Type : MCQ Option Shuffling : Yes Display Question Number : Yes
Single Line Question Option : No Option Orientation : Vertical

Correct Marks : 1 Wrong Marks : 0.25

How do ethnic ideologies help in the propagation of inequalities?

Options :

1. ✘ Through the condemnation of cleansing programmes
2. ✘ Agreeing to make compromises over the contested territory
3. ✘ Both a and b
4. ✔ No option is correct

Question Number : 157 Question Id : 5459276622 Question Type : MCQ Option Shuffling : Yes Display Question Number : Yes
Single Line Question Option : No Option Orientation : Vertical

Correct Marks : 1 Wrong Marks : 0.25

The problems posed by the phenomenon of ethnicity can be solved by:

Options :

- ✘ Propagating nationalism which seeks to absorb sub-nationalism and micro-nationalism
- ✔ Isolating ethnic group within a wide cultural spectrum
- ✘ Advocating cultural pluralism which stabilizes the prevailing cultural situation
- ✘ Identifying with assimilation and homogenisation of diverse groups

Question Number : 158 Question Id : 5459276623 Question Type : MCQ Option Shuffling : Yes Display Question Number : Yes
Single Line Question Option : No Option Orientation : Vertical

Correct Marks : 1 Wrong Marks : 0.25

Which of the following approaches provide an understanding of the new ethnic phenomena?

Options :

- ✘ The primordial approach to ethnicity and ethnic-identities
- ✘ The situational, subjectivist or instrumental that is based on member's perception of being different from others
- ✔ Both a and b
- ✘ No option is correct

Question Number : 159 Question Id : 5459276624 Question Type : MCQ Option Shuffling : Yes Display Question Number : Yes
Single Line Question Option : No Option Orientation : Vertical

Correct Marks : 1 Wrong Marks : 0.25

The author shows how ethnicity transcends known boundaries and fragments nationalities by:

Options :

- ✔ The formation of new identities and symbols which help in the articulation of new interests
- ✘ Taking a consistent and firm stand on ethnic issues
- ✘ By clinging to old ethnic indicators only
- ✘ No option is correct

Question Number : 160 Question Id : 5459276625 Question Type : MCQ Option Shuffling : Yes Display Question Number : Yes
Single Line Question Option : No Option Orientation : Vertical

Correct Marks : 1 Wrong Marks : 0.25

Why ethnicity needs a quality leadership?

Options :

- ✔ A quality leadership can check the arms rebellion within
- ✘ Leadership does not have any role in ethnic movement
- ✘ Both a and b
- ✘ No option is correct

Question Id : 5459276620 Question Type : COMPREHENSION Sub Question Shuffling Allowed : Yes Group Comprehension
Questions : No

Question Numbers : (156 to 160)

Question Label : Comprehension

Read the following information carefully and answer the given questions.

There are two main approaches to the understanding of the new ethnic phenomenon. The pre-mordialist approach to ethnicity and ethnic identities considers common descent activated more easily than rational principles and organization founded upon them. The other approach is variously known as situational, subjectivist, or instrumental. Its main emphasis is on group members perceptions of being different from others and on the implications of this for that group's present status or predicament and for its prospects for the future.

These contending approaches are an aid to an explication of issues and to the undertaking of contemporary reality but they do not offer any final answers. They are often no more than exercises in the reconstruction of the past; the definition and redefinition of the situations to explain the present and stratagems and strategies for achieving the desired future. Ethnicity transcends the known boundaries of state, religion, sect, and class. It seeks to fragment established nationalities and communities and create a new one using ethnic indicators. It involves symbols –old as well as newly created– and their manipulation by competing elites.

The symbolic and cultural aspects of ethnicity are important in themselves; and they often get politicized because, in the final analysis, most ethnic conflicts are demands for a larger share of economic resources and products, and for a greater part in decision-making processes. Given identities can be questioned by individuals and groups, and their actions can result in the formation of new identities and symbol systems associated with the articulation of new interests. Ethnicity may thus lead to the redefinition of Social and cultural boundaries. Ethnic aspirations and urges have a quick silver quality, they need to be consistent and firm. This is explained by the quality of leadership of several ethnic movements. A section of the established elite may be behind them, but the elite can be pushed aside and the leadership taken over by arms wielding elements of diverse origins.

Sub questions

Question Number : 156 Question Id : 5459276621 Question Type : MCQ Option Shuffling : Yes Display Question Number : Yes Single Line Question Option : No Option Orientation : Vertical

Correct Marks : 1 Wrong Marks : 0.25

How do ethnic ideologies help in the propagation of inequalities?

Options :

- ✘ Through the condemnation of cleansing programmes
- ✘ Agreeing to make compromises over the contested territory
- ✘ Both a and b
- ✔ No option is correct

Question Number : 157 Question Id : 5459276622 Question Type : MCQ Option Shuffling : Yes Display Question Number : Yes Single Line Question Option : No Option Orientation : Vertical

Correct Marks : 1 Wrong Marks : 0.25

The problems posed by the phenomenon of ethnicity can be solved by:

Options :

- ✘ Propagating nationalism which seeks to absorb sub-nationalism and micro-nationalism
- ✔ Isolating ethnic group within a wide cultural spectrum
- ✘ Advocating cultural pluralism which stabilizes the prevailing cultural situation
- ✘ Identifying with assimilation and homogenisation of diverse groups

Question Number : 158 Question Id : 5459276623 Question Type : MCQ Option Shuffling : Yes Display Question Number : Yes Single Line Question Option : No Option Orientation : Vertical

Correct Marks : 1 Wrong Marks : 0.25

Which of the following approaches provide an understanding of the new ethnic phenomena?

Options :

- ✘ The primordial approach to ethnicity and ethnic-identities
- ✘ The situational, subjectivist or instrumental that is based on member's perception of being different from others
- ✔ Both a and b

4. ✘ No option is correct

Question Number : 159 Question Id : 5459276624 Question Type : MCQ Option Shuffling : Yes Display Question Number : Yes
Single Line Question Option : No Option Orientation : Vertical

Correct Marks : 1 Wrong Marks : 0.25

The author shows how ethnicity transcends known boundaries and fragments nationalities by:

Options :

1. ✔ The formation of new identities and symbols which help in the articulation of new interests
2. ✘ Taking a consistent and firm stand on ethnic issues
3. ✘ By clinging to old ethnic indicators only
4. ✘ No option is correct

Question Number : 160 Question Id : 5459276625 Question Type : MCQ Option Shuffling : Yes Display Question Number : Yes
Single Line Question Option : No Option Orientation : Vertical

Correct Marks : 1 Wrong Marks : 0.25

Why ethnicity needs a quality leadership?

Options :

1. ✔ A quality leadership can check the arms rebellion within
2. ✘ Leadership does not have any role in ethnic movement
3. ✘ Both a and b
4. ✘ No option is correct

General Hindi 1

Group Number :	9
Group Id :	545927329
Group Maximum Duration :	0
Group Minimum Duration :	0
Revisit allowed for view? :	No
Revisit allowed for edit? :	No
Break time:	0
Group Marks:	20
Revisit allowed for group Instructions? :	Yes
Maximum Instruction Time:	0
Minimum Instruction Time:	0

General Hindi 1

Section Id :	545927329
Section Number :	1
Section type :	Online
Mandatory or Optional:	Mandatory
Number of Questions:	20
Number of Questions to be attempted:	20
Section Marks:	20
Display Number Panel:	Yes
Group All Questions:	No

Sub-Section Number: 1
Sub-Section Id: 545927394
Question Shuffling Allowed : Yes

Question Number : 161 Question Id : 5459276626 Question Type : MCQ Option Shuffling : Yes Display Question Number : Yes
Single Line Question Option : No Option Orientation : Vertical

Correct Marks : 1 Wrong Marks : 0.25

दिए गए शब्द में संधि के रूप की पहचान कीजिए।

मध्यावधि

Options :

1. ✓ दीर्घ संधि
2. ✗ अयादि संधि
3. ✗ गुण संधि
4. ✗ विसर्ग संधि

Question Number : 161 Question Id : 5459276626 Question Type : MCQ Option Shuffling : Yes Display Question Number : Yes
Single Line Question Option : No Option Orientation : Vertical

Correct Marks : 1 Wrong Marks : 0.25

दिए गए शब्द में संधि के रूप की पहचान कीजिए।

मध्यावधि

Options :

1. ✓ दीर्घ संधि
2. ✗ अयादि संधि
3. ✗ गुण संधि
4. ✗ विसर्ग संधि

Question Number : 162 Question Id : 5459276627 Question Type : MCQ Option Shuffling : Yes Display Question Number : Yes
Single Line Question Option : No Option Orientation : Vertical

Correct Marks : 1 Wrong Marks : 0.25

दिए शब्द में प्रत्यय ज्ञात कीजिए।

बुराई

Options :

1. ✗ बु
2. ✗ आई
3. ✗ राई
4. ✓ ई

Question Number : 162 Question Id : 5459276627 Question Type : MCQ Option Shuffling : Yes Display Question Number : Yes
Single Line Question Option : No Option Orientation : Vertical

Correct Marks : 1 Wrong Marks : 0.25

दिए शब्द में प्रत्यय ज्ञात कीजिए।

बुराई

Options :

1. ✗ बु
2. ✗ आई
3. ✗ राई
4. ✓ ई

Question Number : 163 Question Id : 5459276628 Question Type : MCQ Option Shuffling : Yes Display Question Number : Yes
Single Line Question Option : No Option Orientation : Vertical

Correct Marks : 1 Wrong Marks : 0.25

निम्नलिखित में से कौन सा शब्द युग्म तत्सम - तद्भव का नहीं है?

Options :

1. ✘ लक्ष - लाख
2. ✘ कंकण - कंगन
3. ✘ कर्ण - कान
4. ✔ नासिका - नसें

Question Number : 163 Question Id : 5459276628 Question Type : MCQ Option Shuffling : Yes Display Question Number : Yes
Single Line Question Option : No Option Orientation : Vertical

Correct Marks : 1 Wrong Marks : 0.25

निम्नलिखित में से कौन सा शब्द युग्म तत्सम - तद्भव का नहीं है?

Options :

1. ✘ लक्ष - लाख
2. ✘ कंकण - कंगन
3. ✘ कर्ण - कान
4. ✔ नासिका - नसें

Question Number : 164 Question Id : 5459276629 Question Type : MCQ Option Shuffling : Yes Display Question Number : Yes
Single Line Question Option : No Option Orientation : Vertical

Correct Marks : 1 Wrong Marks : 0.25

निम्नलिखित में से कौन सी भाववाचक संज्ञा सर्वनाम से बनी है?

Options :

1. ✘ दासता
2. ✔ एकता
3. ✘ ताज़गी
4. ✘ चुनाव

Question Number : 164 Question Id : 5459276629 Question Type : MCQ Option Shuffling : Yes Display Question Number : Yes
Single Line Question Option : No Option Orientation : Vertical

Correct Marks : 1 Wrong Marks : 0.25

निम्नलिखित में से कौन सी भाववाचक संज्ञा सर्वनाम से बनी है?

Options :

1. ✘ दासता
2. ✔ एकता
3. ✘ ताज़गी
4. ✘ चुनाव

Question Number : 165 Question Id : 5459276630 Question Type : MCQ Option Shuffling : Yes Display Question Number : Yes
Single Line Question Option : No Option Orientation : Vertical

Correct Marks : 1 Wrong Marks : 0.25

दिए गए शब्द किसके उदाहरण है ज्ञात कीजिए।

अंदर, अन्यत्र, आगे, ऊपर

Options :

1. ✔ स्थानवाचक क्रिया विशेषण

2. ✘ कालवाचक क्रिया विशेषण
3. ✘ परिमाणवाचक क्रिया विशेषण
4. ✘ रीतिवाचक क्रिया विशेषण

Question Number : 165 Question Id : 5459276630 Question Type : MCQ Option Shuffling : Yes Display Question Number : Yes
Single Line Question Option : No Option Orientation : Vertical

Correct Marks : 1 Wrong Marks : 0.25

दिए गए शब्द किसके उदाहरण हैं ज्ञात कीजिए।

अंदर, अन्यत्र, आगे, ऊपर

Options :

1. ✔ स्थानवाचक क्रिया विशेषण
2. ✘ कालवाचक क्रिया विशेषण
3. ✘ परिमाणवाचक क्रिया विशेषण
4. ✘ रीतिवाचक क्रिया विशेषण

Question Number : 166 Question Id : 5459276631 Question Type : MCQ Option Shuffling : Yes Display Question Number : Yes
Single Line Question Option : No Option Orientation : Vertical

Correct Marks : 1 Wrong Marks : 0.25

निम्नलिखित में से कौन सा शब्द युग्म छंदबद्ध का है?

Options :

1. ✘ यहाँ - वहाँ
2. ✔ टार - पार
3. ✘ थोड़ा - बहुत
4. ✘ जैसे - तैसे

Question Number : 166 Question Id : 5459276631 Question Type : MCQ Option Shuffling : Yes Display Question Number : Yes
Single Line Question Option : No Option Orientation : Vertical

Correct Marks : 1 Wrong Marks : 0.25

निम्नलिखित में से कौन सा शब्द युग्म छंदबद्ध का है?

Options :

1. ✘ यहाँ - वहाँ
2. ✔ टार - पार
3. ✘ थोड़ा - बहुत
4. ✘ जैसे - तैसे

Question Number : 167 Question Id : 5459276632 Question Type : MCQ Option Shuffling : Yes Display Question Number : Yes
Single Line Question Option : No Option Orientation : Vertical

Correct Marks : 1 Wrong Marks : 0.25

दिए गए शब्द युग्म का अर्थ ज्ञात कीजिए।

कर्म - क्रम

Options :

1. ✔ काम - सिलसिला
2. ✘ काम - क्रिया
3. ✘ काम - धाम
4. ✘ काम - किनारा

Question Number : 167 Question Id : 5459276632 Question Type : MCQ Option Shuffling : Yes Display Question Number : Yes
Single Line Question Option : No Option Orientation : Vertical

Correct Marks : 1 Wrong Marks : 0.25

दिए गए शब्द युग्म का अर्थ ज्ञात कीजिए।

कर्म - क्रम

Options :

1. ✓ काम - सिलसिला
2. ✗ काम - क्रिया
3. ✗ काम - धाम
4. ✗ काम - किनारा

Question Number : 168 Question Id : 5459276633 Question Type : MCQ Option Shuffling : Yes Display Question Number : Yes
Single Line Question Option : No Option Orientation : Vertical

Correct Marks : 1 Wrong Marks : 0.25

निम्नलिखित में से शुद्ध आत्मा का मनुष्य क्या कहलाता है?

Options :

1. ✓ शुद्धोधन
2. ✗ शुद्धात्मा
3. ✗ शुद्धत्मा
4. ✗ शुद्धआत्मा

Question Number : 168 Question Id : 5459276633 Question Type : MCQ Option Shuffling : Yes Display Question Number : Yes
Single Line Question Option : No Option Orientation : Vertical

Correct Marks : 1 Wrong Marks : 0.25

निम्नलिखित में से शुद्ध आत्मा का मनुष्य क्या कहलाता है?

Options :

1. ✓ शुद्धोधन
2. ✗ शुद्धात्मा
3. ✗ शुद्धत्मा
4. ✗ शुद्धआत्मा

Question Number : 169 Question Id : 5459276634 Question Type : MCQ Option Shuffling : Yes Display Question Number : Yes
Single Line Question Option : No Option Orientation : Vertical

Correct Marks : 1 Wrong Marks : 0.25

दिए गए शब्द का पर्यायवाची ज्ञात कीजिए।

संज्ञाहीन

Options :

1. ✗ संज्ञासहित
2. ✗ संज्ञासंघ
3. ✓ बेसुध
4. ✗ संज्ञाविहिन

Question Number : 169 Question Id : 5459276634 Question Type : MCQ Option Shuffling : Yes Display Question Number : Yes
Single Line Question Option : No Option Orientation : Vertical

Correct Marks : 1 Wrong Marks : 0.25

दिए गए शब्द का पर्यायवाची ज्ञात कीजिए।

संज्ञाहीन

Options :

1. ✘ संज्ञासहित
2. ✘ संज्ञासंघ
3. ✔ बेसुध
4. ✘ संज्ञाविहिन

Question Number : 170 Question Id : 5459276635 Question Type : MCQ Option Shuffling : Yes Display Question Number : Yes
Single Line Question Option : No Option Orientation : Vertical

Correct Marks : 1 Wrong Marks : 0.25

निम्नलिखित में से शुद्ध वर्तनी का चयन कीजिए

Options :

1. ✔ दीवार
2. ✘ परिक्षा
3. ✘ श्रेह
4. ✘ महत्वपूर्ण

Question Number : 170 Question Id : 5459276635 Question Type : MCQ Option Shuffling : Yes Display Question Number : Yes
Single Line Question Option : No Option Orientation : Vertical

Correct Marks : 1 Wrong Marks : 0.25

निम्नलिखित में से शुद्ध वर्तनी का चयन कीजिए

Options :

1. ✔ दीवार
2. ✘ परिक्षा
3. ✘ श्रेह
4. ✘ महत्वपूर्ण

Question Number : 171 Question Id : 5459276636 Question Type : MCQ Option Shuffling : Yes Display Question Number : Yes
Single Line Question Option : No Option Orientation : Vertical

Correct Marks : 1 Wrong Marks : 0.25

दिए गए शब्द का विलोम शब्द ज्ञात कीजिए

ह्रस्व

Options :

1. ✔ दीर्घ
2. ✘ लम्बा
3. ✘ लघु
4. ✘ छोटा

Question Number : 171 Question Id : 5459276636 Question Type : MCQ Option Shuffling : Yes Display Question Number : Yes
Single Line Question Option : No Option Orientation : Vertical

Correct Marks : 1 Wrong Marks : 0.25

दिए गए शब्द का विलोम शब्द ज्ञात कीजिए

ह्रस्व

Options :

1. ✔ दीर्घ
2. ✘ लम्बा
3. ✘ लघु
4. ✘ छोटा

Question Number : 172 Question Id : 5459276637 Question Type : MCQ Option Shuffling : Yes Display Question Number : Yes
Single Line Question Option : No Option Orientation : Vertical

Correct Marks : 1 Wrong Marks : 0.25

दिए गए वाक्य में रिक्त स्थान की पूर्ति कीजिए।

ईश्वर _____ विद्यमान है।

Options :

1. ✓ सर्वत्र
2. ✗ थोड़ा
3. ✗ बहुत
4. ✗ जितना

Question Number : 172 Question Id : 5459276637 Question Type : MCQ Option Shuffling : Yes Display Question Number : Yes
Single Line Question Option : No Option Orientation : Vertical

Correct Marks : 1 Wrong Marks : 0.25

दिए गए वाक्य में रिक्त स्थान की पूर्ति कीजिए।

ईश्वर _____ विद्यमान है।

Options :

1. ✓ सर्वत्र
2. ✗ थोड़ा
3. ✗ बहुत
4. ✗ जितना

Question Number : 173 Question Id : 5459276638 Question Type : MCQ Option Shuffling : Yes Display Question Number : Yes
Single Line Question Option : No Option Orientation : Vertical

Correct Marks : 1 Wrong Marks : 0.25

दिए गए वाक्यांश के लिए उचित शब्द का चयन कीजिए।

जिसका निर्णय न हो सका हो

Options :

1. ✗ अनिर्णय
2. ✗ निर्णयहीन
3. ✓ अनिर्णीत
4. ✗ विनिर्णय

Question Number : 173 Question Id : 5459276638 Question Type : MCQ Option Shuffling : Yes Display Question Number : Yes
Single Line Question Option : No Option Orientation : Vertical

Correct Marks : 1 Wrong Marks : 0.25

दिए गए वाक्यांश के लिए उचित शब्द का चयन कीजिए।

जिसका निर्णय न हो सका हो

Options :

1. ✗ अनिर्णय
2. ✗ निर्णयहीन
3. ✓ अनिर्णीत
4. ✗ विनिर्णय

Question Number : 174 Question Id : 5459276639 Question Type : MCQ Option Shuffling : Yes Display Question Number : Yes
Single Line Question Option : No Option Orientation : Vertical

Correct Marks : 1 Wrong Marks : 0.25

दिए गए शब्द का पर्यायवाची ज्ञात कीजिए।

तोता

Options :

1. ✘ रोल
2. ✘ बाजुरा
3. ✘ अभ्र
4. ✔ सुग्गा

Question Number : 174 Question Id : 5459276639 Question Type : MCQ Option Shuffling : Yes Display Question Number : Yes
Single Line Question Option : No Option Orientation : Vertical

Correct Marks : 1 Wrong Marks : 0.25

दिए गए शब्द का पर्यायवाची ज्ञात कीजिए।

तोता

Options :

1. ✘ रोल
2. ✘ बाजुरा
3. ✘ अभ्र
4. ✔ सुग्गा

Question Number : 175 Question Id : 5459276640 Question Type : MCQ Option Shuffling : Yes Display Question Number : Yes
Single Line Question Option : No Option Orientation : Vertical

Correct Marks : 1 Wrong Marks : 0.25

निम्नलिखित में से कौन सा शब्द वर्तनी की दृष्टि से शुद्ध है?

Options :

1. ✔ अभिमान
2. ✘ अटारी
3. ✘ अन्तसिरी
4. ✘ अम्रत

Question Number : 175 Question Id : 5459276640 Question Type : MCQ Option Shuffling : Yes Display Question Number : Yes
Single Line Question Option : No Option Orientation : Vertical

Correct Marks : 1 Wrong Marks : 0.25

निम्नलिखित में से कौन सा शब्द वर्तनी की दृष्टि से शुद्ध है?

Options :

1. ✔ अभिमान
2. ✘ अटारी
3. ✘ अन्तसिरी
4. ✘ अम्रत

Question Number : 176 Question Id : 5459276641 Question Type : MCQ Option Shuffling : Yes Display Question Number : Yes
Single Line Question Option : No Option Orientation : Vertical

Correct Marks : 1 Wrong Marks : 0.25

निम्नलिखित में से पुल्लिंग शब्द कौन सा है?

Options :

1. ✘ दया
2. ✘ घटना
3. ✘ जड़ता

4. ✓ बुढ़ापा

Question Number : 176 Question Id : 5459276641 Question Type : MCQ Option Shuffling : Yes Display Question Number : Yes
Single Line Question Option : No Option Orientation : Vertical

Correct Marks : 1 Wrong Marks : 0.25

निम्नलिखित में से पुल्लिंग शब्द कौन सा है?

Options :

1. ✗ दया
2. ✗ घटना
3. ✗ जड़ता
4. ✓ बुढ़ापा

Question Number : 177 Question Id : 5459276642 Question Type : MCQ Option Shuffling : Yes Display Question Number : Yes
Single Line Question Option : No Option Orientation : Vertical

Correct Marks : 1 Wrong Marks : 0.25

निम्नलिखित में से किस वाक्य में वचन का सही प्रयोग हुआ है?

Options :

1. ✗ मेरी होश उड़ गयी
2. ✓ मेरे होश उड़ गए
3. ✗ हमारे होश उड़ गयी
4. ✗ मैं होश उड़ गयी

Question Number : 177 Question Id : 5459276642 Question Type : MCQ Option Shuffling : Yes Display Question Number : Yes
Single Line Question Option : No Option Orientation : Vertical

Correct Marks : 1 Wrong Marks : 0.25

निम्नलिखित में से किस वाक्य में वचन का सही प्रयोग हुआ है?

Options :

1. ✗ मेरी होश उड़ गयी
2. ✓ मेरे होश उड़ गए
3. ✗ हमारे होश उड़ गयी
4. ✗ मैं होश उड़ गयी

Question Number : 178 Question Id : 5459276643 Question Type : MCQ Option Shuffling : Yes Display Question Number : Yes
Single Line Question Option : No Option Orientation : Vertical

Correct Marks : 1 Wrong Marks : 0.25

निम्नलिखित में से विभक्ति तथा कारक का कौन सा युग्म सही नहीं है?

Options :

1. ✗ से - करण
2. ✗ से - अपादान
3. ✓ में, पर - सम्बन्ध
4. ✗ को - कर्ण

Question Number : 178 Question Id : 5459276643 Question Type : MCQ Option Shuffling : Yes Display Question Number : Yes
Single Line Question Option : No Option Orientation : Vertical

Correct Marks : 1 Wrong Marks : 0.25

निम्नलिखित में से विभक्ति तथा कारक का कौन सा युग्म सही नहीं है?

Options :

1. ✗ से - करण
2. ✗ से - अपादान

3. ✓ में, पर - सम्बन्ध

4. ✗ को - कर्ण

Question Number : 179 Question Id : 5459276644 Question Type : MCQ Option Shuffling : Yes Display Question Number : Yes
Single Line Question Option : No Option Orientation : Vertical

Correct Marks : 1 Wrong Marks : 0.25

निम्नलिखित में से किस वाक्य में कर्तृवाच्य का प्रयोग हुआ है?

Options :

1. ✓ मीनू स्कूल जाती है।

2. ✗ रमेश पुस्तक लाओ।

3. ✗ शायद वह गोपाल का भाई है।

4. ✗ बैठा नहीं जाता।

Question Number : 179 Question Id : 5459276644 Question Type : MCQ Option Shuffling : Yes Display Question Number : Yes
Single Line Question Option : No Option Orientation : Vertical

Correct Marks : 1 Wrong Marks : 0.25

निम्नलिखित में से किस वाक्य में कर्तृवाच्य का प्रयोग हुआ है?

Options :

1. ✓ मीनू स्कूल जाती है।

2. ✗ रमेश पुस्तक लाओ।

3. ✗ शायद वह गोपाल का भाई है।

4. ✗ बैठा नहीं जाता।

Question Number : 180 Question Id : 5459276645 Question Type : MCQ Option Shuffling : Yes Display Question Number : Yes
Single Line Question Option : No Option Orientation : Vertical

Correct Marks : 1 Wrong Marks : 0.25

दिए गए वाक्य का काल ज्ञात कीजिए।

यदि वह पढ़ता, तो परीक्षा में उत्तीर्ण हो जाता।

Options :

1. ✗ आसन्न भूत

2. ✗ पूर्ण भूत

3. ✓ हेतुहेतुमद् भूत

4. ✗ संदिग्ध भूत

Question Number : 180 Question Id : 5459276645 Question Type : MCQ Option Shuffling : Yes Display Question Number : Yes
Single Line Question Option : No Option Orientation : Vertical

Correct Marks : 1 Wrong Marks : 0.25

दिए गए वाक्य का काल ज्ञात कीजिए।

यदि वह पढ़ता, तो परीक्षा में उत्तीर्ण हो जाता।

Options :

1. ✗ आसन्न भूत

2. ✗ पूर्ण भूत

3. ✓ हेतुहेतुमद् भूत

4. ✗ संदिग्ध भूत

General Hindi2

Group Number :	10
Group Id :	545927330
Group Maximum Duration :	0
Group Minimum Duration :	120
Revisit allowed for view? :	No
Revisit allowed for edit? :	No
Break time:	0
Group Marks:	20
Revisit allowed for group Instructions? :	Yes
Maximum Instruction Time:	0
Minimum Instruction Time:	0

General Hindi2

Section Id :	545927330
Section Number :	1
Section type :	Online
Mandatory or Optional:	Mandatory
Number of Questions:	16
Number of Questions to be attempted:	16
Section Marks:	20
Display Number Panel:	Yes
Group All Questions:	No

Sub-Section Number:	1
Sub-Section Id:	545927395
Question Shuffling Allowed :	Yes

Question Number : 181 Question Id : 5459276646 Question Type : MCQ Option Shuffling : Yes Display Question Number : Yes
Single Line Question Option : No Option Orientation : Vertical

Correct Marks : 1 Wrong Marks : 0.25

दिए गए वाक्य में पक्ष के रूप की पहचान कीजिए।

बच्चे मैदान में खेलते हैं।

Options :

1. ✓ नित्य पक्ष
2. ✗ पूर्ण पक्ष
3. ✗ सातत्य पक्ष
4. ✗ स्थित्यामक पक्ष

Question Number : 181 Question Id : 5459276646 Question Type : MCQ Option Shuffling : Yes Display Question Number : Yes
Single Line Question Option : No Option Orientation : Vertical

Correct Marks : 1 Wrong Marks : 0.25

दिए गए वाक्य में पक्ष के रूप की पहचान कीजिए।

बच्चे मैदान में खेलते हैं।

Options :

1. ✓ नित्य पक्ष
2. ✗ पूर्ण पक्ष

3. ✖ सातत्य पक्ष
4. ✖ स्थित्यामक पक्ष

Question Number : 182 Question Id : 5459276647 Question Type : MCQ Option Shuffling : Yes Display Question Number : Yes
Single Line Question Option : No Option Orientation : Vertical

Correct Marks : 1 Wrong Marks : 0.25

दिए गए वाक्य में वृत्ति के रूप की पहचान कीजिए

वह कभी भी आ सकता है

Options :

1. ✖ संकेतार्थक
2. ✖ आज्ञार्थक
3. ✔ संभावनार्थक
4. ✖ निश्चियार्थक

Question Number : 182 Question Id : 5459276647 Question Type : MCQ Option Shuffling : Yes Display Question Number : Yes
Single Line Question Option : No Option Orientation : Vertical

Correct Marks : 1 Wrong Marks : 0.25

दिए गए वाक्य में वृत्ति के रूप की पहचान कीजिए

वह कभी भी आ सकता है

Options :

1. ✖ संकेतार्थक
2. ✖ आज्ञार्थक
3. ✔ संभावनार्थक
4. ✖ निश्चियार्थक

Question Number : 183 Question Id : 5459276648 Question Type : MCQ Option Shuffling : Yes Display Question Number : Yes
Single Line Question Option : No Option Orientation : Vertical

Correct Marks : 1 Wrong Marks : 0.25

दिए गए वाक्यों में से शुद्ध वाक्य का चयन कीजिए

Options :

1. ✖ सुबह उठकर सबको दो गिलास गुनगुना गर्म पानी पीना चाहिए
2. ✖ सुबह सबको दो गिलास गुनगुना गर्म पानी पीना चाहिए
3. ✖ सुबह उठकर सबको दो - दो गिलास गुनगुना गर्म पानी पीना चाहिए
4. ✔ सुबह उठकर सबको दो गिलास गर्म पानी पीना चाहिए

Question Number : 183 Question Id : 5459276648 Question Type : MCQ Option Shuffling : Yes Display Question Number : Yes
Single Line Question Option : No Option Orientation : Vertical

Correct Marks : 1 Wrong Marks : 0.25

दिए गए वाक्यों में से शुद्ध वाक्य का चयन कीजिए

Options :

1. ✖ सुबह उठकर सबको दो गिलास गुनगुना गर्म पानी पीना चाहिए
2. ✖ सुबह सबको दो गिलास गुनगुना गर्म पानी पीना चाहिए
3. ✖ सुबह उठकर सबको दो - दो गिलास गुनगुना गर्म पानी पीना चाहिए
4. ✔ सुबह उठकर सबको दो गिलास गर्म पानी पीना चाहिए

Question Number : 184 Question Id : 5459276649 Question Type : MCQ Option Shuffling : Yes Display Question Number : Yes
Single Line Question Option : No Option Orientation : Vertical

Correct Marks : 1 Wrong Marks : 0.25

दिए गए वाक्य में पुरुष ज्ञात कीजिए।

तुम मुझे पसंद हो।

Options :

1. ✘ उत्तम
2. ✔ मध्यम
3. ✘ प्रथम
4. ✘ अन्य

Question Number : 184 Question Id : 5459276649 Question Type : MCQ Option Shuffling : Yes Display Question Number : Yes
Single Line Question Option : No Option Orientation : Vertical

Correct Marks : 1 Wrong Marks : 0.25

दिए गए वाक्य में पुरुष ज्ञात कीजिए।

तुम मुझे पसंद हो।

Options :

1. ✘ उत्तम
2. ✔ मध्यम
3. ✘ प्रथम
4. ✘ अन्य

Question Number : 185 Question Id : 5459276650 Question Type : MCQ Option Shuffling : Yes Display Question Number : Yes
Single Line Question Option : No Option Orientation : Vertical

Correct Marks : 1 Wrong Marks : 0.25

दिए गए वाक्य के रूप की पहचान कीजिए।

साहसी व्यक्ति उन्नति करते हैं।

Options :

1. ✘ संयुक्त
2. ✔ सरल
3. ✘ निषेधात्मक
4. ✘ मिश्र

Question Number : 185 Question Id : 5459276650 Question Type : MCQ Option Shuffling : Yes Display Question Number : Yes
Single Line Question Option : No Option Orientation : Vertical

Correct Marks : 1 Wrong Marks : 0.25

दिए गए वाक्य के रूप की पहचान कीजिए।

साहसी व्यक्ति उन्नति करते हैं।

Options :

1. ✘ संयुक्त
2. ✔ सरल
3. ✘ निषेधात्मक
4. ✘ मिश्र

Question Number : 186 Question Id : 5459276651 Question Type : MCQ Option Shuffling : Yes Display Question Number : Yes
Single Line Question Option : No Option Orientation : Vertical

Correct Marks : 1 Wrong Marks : 0.25

निम्नलिखित प्रश्न में, दिए गए चार विकल्पों में से, उस विकल्प का चयन करें जो दिए गए मुहावरे के अर्थ को सर्वश्रेष्ठ रूप से व्यक्त करता है।

गिन - गिन कर पैर रखना।

Options :

1. ✓ अत्याधिक सावधानी बरतना
2. ✗ पैर गिन कर रखना
3. ✗ गिन - गिन कर नाचना
4. ✗ बहुत घबरा जाना

Question Number : 186 Question Id : 5459276651 Question Type : MCQ Option Shuffling : Yes Display Question Number : Yes
Single Line Question Option : No Option Orientation : Vertical

Correct Marks : 1 Wrong Marks : 0.25

निम्नलिखित प्रश्न में, दिए गए चार विकल्पों में से, उस विकल्प का चयन करें जो दिए गए मुहावरे के अर्थ को सर्वश्रेष्ठ रूप से व्यक्त करता है।

गिन - गिन कर पैर रखना

Options :

1. ✓ अत्याधिक सावधानी बरतना
2. ✗ पैर गिन कर रखना
3. ✗ गिन - गिन कर नाचना
4. ✗ बहुत घबरा जाना

Question Number : 187 Question Id : 5459276652 Question Type : MCQ Option Shuffling : Yes Display Question Number : Yes
Single Line Question Option : No Option Orientation : Vertical

Correct Marks : 1 Wrong Marks : 0.25

निम्नलिखित प्रश्न में, दिए गए चार विकल्पों में से, उस विकल्प का चयन करें जो दिए गए मुहावरे के अर्थ को सर्वश्रेष्ठ रूप से व्यक्त करता है।

गांठ का पक्का होना

Options :

1. ✗ गांठ बाँधना
2. ✓ धन संभाल कर रखना
3. ✗ पक्की गांठ लगाना
4. ✗ कपड़े संभाल कर रखना

Question Number : 187 Question Id : 5459276652 Question Type : MCQ Option Shuffling : Yes Display Question Number : Yes
Single Line Question Option : No Option Orientation : Vertical

Correct Marks : 1 Wrong Marks : 0.25

निम्नलिखित प्रश्न में, दिए गए चार विकल्पों में से, उस विकल्प का चयन करें जो दिए गए मुहावरे के अर्थ को सर्वश्रेष्ठ रूप से व्यक्त करता है।

गांठ का पक्का होना

Options :

1. ✗ गांठ बाँधना
2. ✓ धन संभाल कर रखना
3. ✗ पक्की गांठ लगाना
4. ✗ कपड़े संभाल कर रखना

Question Number : 188 Question Id : 5459276653 Question Type : MCQ Option Shuffling : Yes Display Question Number : Yes
Single Line Question Option : No Option Orientation : Vertical

Correct Marks : 1 Wrong Marks : 0.25

निम्नलिखित प्रश्न में, दिए गए चार विकल्पों में से, उस विकल्प का चयन करें जो दिए गए मुहावरे के अर्थ को सर्वश्रेष्ठ रूप से व्यक्त करता है।

कलम तोड़ना

Options :

1. ✓ बहुत अच्छा लिखना

2. ✘ पेन तोड़ देना
3. ✘ बहुत खराब लिखना
4. ✘ अधिक लिखना

Question Number : 188 Question Id : 5459276653 Question Type : MCQ Option Shuffling : Yes Display Question Number : Yes
Single Line Question Option : No Option Orientation : Vertical

Correct Marks : 1 Wrong Marks : 0.25

निम्नलिखित प्रश्न में, दिए गए चार विकल्पों में से, उस विकल्प का चयन करें जो दिए गए मुहावरे के अर्थ को सर्वश्रेष्ठ रूप से व्यक्त करता है।

कलम तोड़ना

Options :

1. ✔ बहुत अच्छा लिखना
2. ✘ पेन तोड़ देना
3. ✘ बहुत खराब लिखना
4. ✘ अधिक लिखना

Question Number : 189 Question Id : 5459276654 Question Type : MCQ Option Shuffling : Yes Display Question Number : Yes
Single Line Question Option : No Option Orientation : Vertical

Correct Marks : 1 Wrong Marks : 0.25

निम्नलिखित प्रश्न में, दिए गए चार विकल्पों में से, उस विकल्प का चयन करें जो दिए गए मुहावरे के अर्थ को सर्वश्रेष्ठ रूप से व्यक्त करता है।

निरंतर कठोर परिश्रम करना

Options :

1. ✘ लुहार बन जाना
2. ✘ मजदूर का काम करना
3. ✘ एक पंथ दो काज
4. ✔ दिन - रात एक करना

Question Number : 189 Question Id : 5459276654 Question Type : MCQ Option Shuffling : Yes Display Question Number : Yes
Single Line Question Option : No Option Orientation : Vertical

Correct Marks : 1 Wrong Marks : 0.25

निम्नलिखित प्रश्न में, दिए गए चार विकल्पों में से, उस विकल्प का चयन करें जो दिए गए मुहावरे के अर्थ को सर्वश्रेष्ठ रूप से व्यक्त करता है।

निरंतर कठोर परिश्रम करना

Options :

1. ✘ लुहार बन जाना
2. ✘ मजदूर का काम करना
3. ✘ एक पंथ दो काज
4. ✔ दिन - रात एक करना

Question Number : 190 Question Id : 5459276655 Question Type : MCQ Option Shuffling : Yes Display Question Number : Yes
Single Line Question Option : No Option Orientation : Vertical

Correct Marks : 1 Wrong Marks : 0.25

दिए गए वाक्य के लिए सही लोकोक्ति का चयन कीजिए।

दोगुना लाभ होना

Options :

1. ✘ अंधे के हाथ बटेरा
2. ✘ अपने बेरों को कोई खट्टा नहीं बताता
3. ✘ आस पराई जो तके जीवित ही मर जाए

4. ✓ आम के आम गुठलियों के दामा

Question Number : 190 Question Id : 5459276655 Question Type : MCQ Option Shuffling : Yes Display Question Number : Yes
Single Line Question Option : No Option Orientation : Vertical

Correct Marks : 1 Wrong Marks : 0.25

दिए गए वाक्य के लिए सही लोकोक्ति का चयन कीजिए।

दोगुना लाभ होना।

Options :

1. ✗ अंधे के हाथ बटेरा
2. ✗ अपने बेटों को कोई खट्टा नहीं बताता
3. ✗ आस पराई जो तके जीवित ही मर जाए
4. ✓ आम के आम गुठलियों के दामा

Question Number : 191 Question Id : 5459276656 Question Type : MCQ Option Shuffling : Yes Display Question Number : Yes
Single Line Question Option : No Option Orientation : Vertical

Correct Marks : 1 Wrong Marks : 0.25

यदि किसी पद या वाक्यांश के अर्थ का ज्ञान कराना हो तो किस विराम चिह्न का प्रयोग किया जाता है?

Options :

1. ✗ निर्देशक
2. ✗ संयोजक
3. ✓ कोष्ठक
4. ✗ अवतरण

Question Number : 191 Question Id : 5459276656 Question Type : MCQ Option Shuffling : Yes Display Question Number : Yes
Single Line Question Option : No Option Orientation : Vertical

Correct Marks : 1 Wrong Marks : 0.25

यदि किसी पद या वाक्यांश के अर्थ का ज्ञान कराना हो तो किस विराम चिह्न का प्रयोग किया जाता है?

Options :

1. ✗ निर्देशक
2. ✗ संयोजक
3. ✓ कोष्ठक
4. ✗ अवतरण

Question Number : 192 Question Id : 5459276657 Question Type : MCQ Option Shuffling : Yes Display Question Number : Yes
Single Line Question Option : No Option Orientation : Vertical

Correct Marks : 1 Wrong Marks : 0.25

दिए गए विराम चिह्न के रूप की पहचान कीजिए।

(?)

Options :

1. ✗ पूर्ण विराम
2. ✗ अर्द्धविराम
3. ✓ प्रश्नवाचक
4. ✗ लाघव

Question Number : 192 Question Id : 5459276657 Question Type : MCQ Option Shuffling : Yes Display Question Number : Yes
Single Line Question Option : No Option Orientation : Vertical

Correct Marks : 1 Wrong Marks : 0.25

दिए गए विराम चिह्न के रूप की पहचान कीजिए।

(7)

Options :

1. ✘ पूर्ण विराम
2. ✘ अर्द्धविराम
3. ✔ प्रश्नवाचक
4. ✘ लाघव

Question Number : 193 Question Id : 5459276658 Question Type : MCQ Option Shuffling : Yes Display Question Number : Yes
Single Line Question Option : No Option Orientation : Vertical

Correct Marks : 1 Wrong Marks : 0.25

दिए गए शब्द का लाघव रूप ज्ञात कीजिए।

प्रोफ़ेसर

Options :

1. ✘ फ़ो०
2. ✔ प्रो०
3. ✘ प्रोफ़े०
4. ✘ सर०

Question Number : 193 Question Id : 5459276658 Question Type : MCQ Option Shuffling : Yes Display Question Number : Yes
Single Line Question Option : No Option Orientation : Vertical

Correct Marks : 1 Wrong Marks : 0.25

दिए गए शब्द का लाघव रूप ज्ञात कीजिए।

प्रोफ़ेसर

Options :

1. ✘ फ़ो०
2. ✔ प्रो०
3. ✘ प्रोफ़े०
4. ✘ सर०

Question Number : 194 Question Id : 5459276659 Question Type : MCQ Option Shuffling : Yes Display Question Number : Yes
Single Line Question Option : No Option Orientation : Vertical

Correct Marks : 1 Wrong Marks : 0.25

दिए गए वाक्य के लिए सही लोकोक्ति का चयन कीजिए।

बहुत ज्यादा उत्तेजित होना।

Options :

1. ✘ बबूल का पेड़ बनना।
2. ✔ अगिया बेताल होना।
3. ✘ आँखों के आगे अंधकार होना।
4. ✘ अटारी पर चढ़ना।

Question Number : 194 Question Id : 5459276659 Question Type : MCQ Option Shuffling : Yes Display Question Number : Yes
Single Line Question Option : No Option Orientation : Vertical

Correct Marks : 1 Wrong Marks : 0.25

दिए गए वाक्य के लिए सही लोकोक्ति का चयन कीजिए।

बहुत ज्यादा उत्तेजित होना।

Options :

- ✘ बबूल का पेड़ बनना
- ✔ अगिया बेताल होना
- ✘ आँखों के आगे अंधकार होना
- ✘ अटारी पर चढ़ना

Question Number : 195 Question Id : 5459276660 Question Type : MCQ Option Shuffling : Yes Display Question Number : Yes
Single Line Question Option : No Option Orientation : Vertical

Correct Marks : 1 Wrong Marks : 0.25

दिए गए वाक्य के लिए सही लोकोक्ति का चयन कीजिए।

जोखिम मोल लेना।

Options :

- ✘ एक आँख से देखना
- ✘ ईंट जवाब का पत्थर से देना
- ✔ ओखलि में सिर देना
- ✘ एडियाँ रगड़ना

Question Number : 195 Question Id : 5459276660 Question Type : MCQ Option Shuffling : Yes Display Question Number : Yes
Single Line Question Option : No Option Orientation : Vertical

Correct Marks : 1 Wrong Marks : 0.25

दिए गए वाक्य के लिए सही लोकोक्ति का चयन कीजिए।

जोखिम मोल लेना।

Options :

- ✘ एक आँख से देखना
- ✘ ईंट जवाब का पत्थर से देना
- ✔ ओखलि में सिर देना
- ✘ एडियाँ रगड़ना

Sub-Section Number: 2
Sub-Section Id: 545927396
Question Shuffling Allowed : Yes

Question Id : 5459276661 Question Type : COMPREHENSION Sub Question Shuffling Allowed : Yes Group Comprehension
Questions : No

Question Numbers : (196 to 200)

Question Label : Comprehension

एक गद्यांश दिया गया है। गद्यांश के आधार पर पाँच प्रश्न दिए गए हैं। गद्यांश को ध्यानपूर्वक पढ़ें तथा प्रत्येक प्रश्न में चार विकल्पों में से सही विकल्प चुनें।

रात्रि के अंधकार को चीरकर सूर्य पूर्व दिशा से उदय होकर चारों ओर प्रकाश फैला देता है। सूर्य की किरणें वृक्षों की हरियाली को ताजगी प्रदान करती हैं। पुष्पों को खिलाकर चारों ओर सुगंध फैला देती है। अंधकार में डूबे नीले आकाश को रंगों से भर देती है। सूर्य जब पूर्व दिशा में क्षितिज से ऊपर उठता है तो लगता है लाल रंग की बड़ी सी गेंद आकाश में उठती चली आ रही है। सारा आकाश लाल, पीले, सफेद रंग से नहा जाता है। नीले आकाश पर रंगों की बौछार-सी हो जाती है। सारी प्रकृति नए रूप में सज जाती है। पक्षी चहचहाने लगते हैं। तितलियां पुष्पों पर मंडराने लगती हैं। भौरों की गूंज से उपवन संगीतमय हो जाते हैं। सभी अपने-अपने कार्य में निमग्न हो जाते हैं। रात्रि लोरियों से सबको मीठी नींद में सुला देती है। सूर्य उदय होकर सब को उनके कर्तव्यों का बोध कराता है। प्रातः कालीन दृश्य आलौकिक लगता है। सूर्य का कोमल शांत रूप हृदयों में नई ऊर्जा जागृत कर देता है।

Sub questions

Question Number : 196 Question Id : 5459276662 Question Type : MCQ Option Shuffling : Yes Display Question Number : Yes
Single Line Question Option : No Option Orientation : Vertical

Correct Marks : 1 Wrong Marks : 0.25

उपर्युक्त गद्यांश का शीर्षक क्या है?

Options :

1. ✘ कर्तव्यबोधक
2. ✘ ऊर्जा जागरण
3. ✔ सूर्योदय का दृश्य
4. ✘ प्रातःकालीन

Question Number : 197 Question Id : 5459276663 Question Type : MCQ Option Shuffling : Yes Display Question Number : Yes
Single Line Question Option : No Option Orientation : Vertical

Correct Marks : 1 Wrong Marks : 0.25

किसकी गूँज से उपवन संगीतमय हो जाते हैं?

Options :

1. ✘ मक्खी
2. ✔ भौंरा
3. ✘ चिड़िया
4. ✘ हाथी

Question Number : 198 Question Id : 5459276664 Question Type : MCQ Option Shuffling : Yes Display Question Number : Yes
Single Line Question Option : No Option Orientation : Vertical

Correct Marks : 1 Wrong Marks : 0.25

सूर्य की किरणें आकाश में क्या भर देती हैं?

Options :

1. ✔ रंग
2. ✘ तारे
3. ✘ नक्षत्र
4. ✘ चाँद

Question Number : 199 Question Id : 5459276665 Question Type : MCQ Option Shuffling : Yes Display Question Number : Yes
Single Line Question Option : No Option Orientation : Vertical

Correct Marks : 1 Wrong Marks : 0.25

सूर्य उदय होकर सब को क्या याद दिलाता है?

Options :

1. ✔ कर्तव्य का बोध
2. ✘ माँ का कर्ज
3. ✘ पुत्र का कर्तव्य
4. ✘ राजा का कर्तव्य

Question Number : 200 Question Id : 5459276666 Question Type : MCQ Option Shuffling : Yes Display Question Number : Yes
Single Line Question Option : No Option Orientation : Vertical

Correct Marks : 1 Wrong Marks : 0.25

सूर्य के शांत रूप से क्या मिलता है?

Options :

1. ✔ नई ऊर्जा
2. ✘ गरमाहट
3. ✘ घबराहट
4. ✘ रोशनी

Question Id : 5459276661 Question Type : COMPREHENSION Sub Question Shuffling Allowed : Yes Group Comprehension
Questions : No

Question Numbers : (196 to 200)

Question Label : Comprehension

एक गद्यांश दिया गया है। गद्यांश के आधार पर पाँच प्रश्न दिए गए हैं। गद्यांश को ध्यानपूर्वक पढ़ें तथा प्रत्येक प्रश्न में चार विकल्पों में से सही विकल्प चुनें।

रात्रि के अंधकार को चीरकर सूर्य पूर्व दिशा से उदय होकर चारों ओर प्रकाश फैला देता है। सूर्य की किरणें वृक्षों की हरियाली को ताजगी प्रदान करती हैं। पुष्पों को खिलाकर चारों ओर सुगंध फैला देती है। अंधकार में डूबे नीले आकाश को रंगों से भर देती है। सूर्य जब पूर्व दिशा में क्षितिज से ऊपर उठता है तो लगता है लाल रंग की बड़ी सी गेंद आकाश में उठती चली आ रही है। सारा आकाश लाल, पीले, सफेद रंग से नहा जाता है। नीले आकाश पर रंगों की बौछार-सी हो जाती है। सारी प्रकृति नए रूप में सज जाती है। पक्षी चहचहाने लगते हैं। तितलियां पुष्पों पर मंडराने लगती हैं। भौरों की गूंज से उपवन संगीतमय हो जाते हैं। सभी अपने-अपने कार्य में निमग्न हो जाते हैं। रात्रि लोरियों से सबको मीठी नींद में सुला देती है। सूर्य उदय होकर सब को उनके कर्तव्यों का बोध कराता है। प्रातः कालीन दृश्य आलौकिक लगता है। सूर्य का कोमल शांत रूप हृदयों में नई ऊर्जा जागृत कर देता है।

Sub questions

Question Number : 196 Question Id : 5459276662 Question Type : MCQ Option Shuffling : Yes Display Question Number : Yes Single Line Question Option : No Option Orientation : Vertical

Correct Marks : 1 Wrong Marks : 0.25

उपर्युक्त गद्यांश का शीर्षक क्या है?

Options :

1. ✘ कर्तव्यबोधक
2. ✘ ऊर्जा जागरण
3. ✔ सूर्योदय का दृश्य
4. ✘ प्रातःकालीन

Question Number : 197 Question Id : 5459276663 Question Type : MCQ Option Shuffling : Yes Display Question Number : Yes Single Line Question Option : No Option Orientation : Vertical

Correct Marks : 1 Wrong Marks : 0.25

किसकी गूंज से उपवन संगीतमय हो जाते हैं?

Options :

1. ✘ मक्खी
2. ✔ भौरा
3. ✘ चिड़िया
4. ✘ हाथी

Question Number : 198 Question Id : 5459276664 Question Type : MCQ Option Shuffling : Yes Display Question Number : Yes Single Line Question Option : No Option Orientation : Vertical

Correct Marks : 1 Wrong Marks : 0.25

सूर्य की किरणें आकाश में क्या भर देती हैं?

Options :

1. ✔ रंग
2. ✘ तारे
3. ✘ नक्षत्र
4. ✘ चाँद

Question Number : 199 Question Id : 5459276665 Question Type : MCQ Option Shuffling : Yes Display Question Number : Yes Single Line Question Option : No Option Orientation : Vertical

Correct Marks : 1 Wrong Marks : 0.25

सूर्य उदय होकर सब को क्या याद दिलाता है?

Options :

1. ✔ कर्तव्य का बोध
2. ✘ माँ का कर्ज
3. ✘ पुत्र का कर्तव्य

4. ✖ राजा का कर्तव्य

Question Number : 200 Question Id : 5459276666 Question Type : MCQ Option Shuffling : Yes Display Question Number : Yes
Single Line Question Option : No Option Orientation : Vertical

Correct Marks : 1 Wrong Marks : 0.25

सूर्य के शांत रूप से क्या मिलता है?

Options :

1. ✔ नई ऊर्जा
2. ✖ गरमाहट
3. ✖ घबराहट
4. ✖ रोशनी