

Education Consultant India Ltd.

Notations :

- 1.Options shown in green color and with ✓ icon are correct.
- 2.Options shown in red color and with ✖ icon are incorrect.

| | |
|---|--|
| Question Paper Name: | Lower Division Clerk 18th August 2019 S3 |
| Subject Name: | LOWER DIVISION CLERK |
| Creation Date: | 2019-08-18 19:23:43 |
| Duration: | 120 |
| Total Marks: | 200 |
| Display Marks: | Yes |
| Share Answer Key With Delivery Engine: | No |
| Actual Answer Key: | Yes |
| Calculator: | None |
| Magnifying Glass Required?: | No |
| Ruler Required?: | No |
| Eraser Required?: | No |
| Scratch Pad Required?: | No |
| Rough Sketch/Notepad Required?: | No |
| Protractor Required?: | No |
| Show Watermark on Console?: | Yes |
| Highlighter: | No |
| Auto Save on Console?: | No |

Mental Ability 1

| | |
|--|-----------|
| Group Number : | 1 |
| Group Id : | 545927341 |
| Group Maximum Duration : | 0 |
| Group Minimum Duration : | 0 |
| Revisit allowed for view? : | No |
| Revisit allowed for edit? : | No |
| Break time: | 0 |
| Group Marks: | 20 |
| Revisit allowed for group Instructions? : | Yes |
| Maximum Instruction Time: | 0 |
| Minimum Instruction Time: | 0 |

Mental Ability 1

| | |
|---|-----------|
| Section Id : | 545927341 |
| Section Number : | 1 |
| Section type : | Online |
| Mandatory or Optional: | Mandatory |
| Number of Questions: | 20 |
| Number of Questions to be attempted: | 20 |
| Section Marks: | 20 |

Display Number Panel: Yes
Group All Questions: No

Sub-Section Number: 1
Sub-Section Id: 545927409
Question Shuffling Allowed : Yes

Question Number : 1 Question Id : 5459276869 Question Type : MCQ Option Shuffling : Yes Display Question Number : Yes
Single Line Question Option : No Option Orientation : Vertical

Correct Marks : 1 Wrong Marks : 0.25

Arrange the given words in the sequence in which they occur in the dictionary.

1. Quarantine
2. Quadrangle
3. Quantifier
4. Quadruple
5. Quadriiceps

Options :

1. ✘ 25413
2. ✘ 52134
3. ✔ 25431
4. ✘ 51234

Question Number : 1 Question Id : 5459276869 Question Type : MCQ Option Shuffling : Yes Display Question Number : Yes
Single Line Question Option : No Option Orientation : Vertical

Correct Marks : 1 Wrong Marks : 0.25

निम्नलिखित शब्दों को अंग्रेजी शब्दकोश में आने वाले क्रम के अनुसार लिखें

1. Quarantine
2. Quadrangle
3. Quantifier
4. Quadruple
5. Quadriiceps

Options :

1. ✘ 25413
2. ✘ 52134
3. ✔ 25431
4. ✘ 51234

Question Number : 2 Question Id : 5459276870 Question Type : MCQ Option Shuffling : Yes Display Question Number : Yes
Single Line Question Option : No Option Orientation : Vertical

Correct Marks : 1 Wrong Marks : 0.25

A series is given with one term missing. Select the correct alternative from the given ones that will complete the series.

UV5, XZ10, AD17, ?, GL37

Options :

1. ✘ DI27
2. ✘ DI26
3. ✔ DH26
4. ✘ DH27

Question Number : 2 Question Id : 5459276870 Question Type : MCQ Option Shuffling : Yes Display Question Number : Yes
Single Line Question Option : No Option Orientation : Vertical

Correct Marks : 1 Wrong Marks : 0.25

एक अनुक्रम दिया गया है, जिसमें से एक पद लुप्त है। दिए गए विकल्पों में से वह सही विकल्प चुनिए, जो अनुक्रम को पूरा करे।

UV5, XZ10, AD17, ?, GL37

Options :

1. ✘ DI27
2. ✘ DI26
3. ✔ DH26
4. ✘ DH27

Question Number : 3 Question Id : 5459276871 Question Type : MCQ Option Shuffling : Yes Display Question Number : Yes
Single Line Question Option : No Option Orientation : Vertical

Correct Marks : 1 Wrong Marks : 0.25

A series is given with one term wrong. Select that wrong term from the given alternatives.

F4, H9, J15, L25, N36

Options :

1. ✘ F4
2. ✔ J15
3. ✘ L25
4. ✘ N36

Question Number : 3 Question Id : 5459276871 Question Type : MCQ Option Shuffling : Yes Display Question Number : Yes
Single Line Question Option : No Option Orientation : Vertical

Correct Marks : 1 Wrong Marks : 0.25

एक अनुक्रम दिया गया है, जिसमें से एक पद गलत है। दिए गए विकल्पों में से उस गलत पद को चुनिए।

F4, H9, J15, L25, N36

Options :

1. ✘ F4
2. ✔ J15
3. ✘ L25
4. ✘ N36

Question Number : 4 Question Id : 5459276872 Question Type : MCQ Option Shuffling : Yes Display Question Number : Yes
Single Line Question Option : No Option Orientation : Vertical

Correct Marks : 1 Wrong Marks : 0.25

In the following question, select the odd word from the given alternatives.

Options :

1. ✘ Lion
2. ✘ Tiger
3. ✘ Fox
4. ✔ Eagle

Question Number : 4 Question Id : 5459276872 Question Type : MCQ Option Shuffling : Yes Display Question Number : Yes
Single Line Question Option : No Option Orientation : Vertical

Correct Marks : 1 Wrong Marks : 0.25

निम्नलिखित प्रश्न में दिए गए विकल्पों में से विषम शब्द को चुनिए।

Options :

1. ✘ सिंह
2. ✘ बाघ
3. ✘ लोमड़ी
4. ✔ चील

Question Number : 5 Question Id : 5459276873 Question Type : MCQ Option Shuffling : Yes Display Question Number : Yes
Single Line Question Option : No Option Orientation : Vertical

Correct Marks : 1 Wrong Marks : 0.25

In the following question, select the odd letter /letters from the given alternatives.

Options :

1. ✘ ACE
2. ✘ BDF
3. ✘ FHJ
4. ✔ OPR

Question Number : 5 Question Id : 5459276873 Question Type : MCQ Option Shuffling : Yes Display Question Number : Yes
Single Line Question Option : No Option Orientation : Vertical

Correct Marks : 1 Wrong Marks : 0.25

निम्नलिखित प्रश्न में दिए गए विकल्पों में से विषम अक्षर/अक्षरों को चुनिए।

Options :

1. ✘ ACE
2. ✘ BDF
3. ✘ FHJ
4. ✔ OPR

Question Number : 6 Question Id : 5459276874 Question Type : MCQ Option Shuffling : Yes Display Question Number : Yes
Single Line Question Option : No Option Orientation : Vertical

Correct Marks : 1 Wrong Marks : 0.25

In the following question, select the odd word pair from the given alternatives.

Options :

1. ✘ Ostrich : Bird
2. ✔ Stationery : Pen
3. ✘ Lizard : Reptile
4. ✘ Cup : Crockery

Question Number : 6 Question Id : 5459276874 Question Type : MCQ Option Shuffling : Yes Display Question Number : Yes
Single Line Question Option : No Option Orientation : Vertical

Correct Marks : 1 Wrong Marks : 0.25

निम्नलिखित प्रश्न में दिए गए विकल्पों में से विषम शब्द युग्म को चुनिए।

Options :

1. ✘ शतुरमुर्ग : पक्षी
2. ✔ लेखन-सामग्री : कलम
3. ✘ छिपकली : सरीसृप
4. ✘ कप : क्रोकरी

Question Number : 7 Question Id : 5459276875 Question Type : MCQ Option Shuffling : Yes Display Question Number : Yes
Single Line Question Option : No Option Orientation : Vertical

Correct Marks : 1 Wrong Marks : 0.25

In the following question, select the related word pair from the given alternatives.

Young : Old :: ?

Options :

1. ✘ Black : Colour
2. ✘ Work : Hard
3. ✔ Junior : Senior
4. ✘ Work : Joule

Question Number : 7 Question Id : 5459276875 Question Type : MCQ Option Shuffling : Yes Display Question Number : Yes
Single Line Question Option : No Option Orientation : Vertical

Correct Marks : 1 Wrong Marks : 0.25

निम्नलिखित प्रश्न में दिए गए विकल्पों में से संबंधित शब्द युग्म को चुनिए।

युवा : वृद्ध :: ?

Options :

1. ✘ काला : रंग
2. ✘ कार्य : सख्त
3. ✔ जूनियर : सीनियर
4. ✘ कार्य : जूल

Question Number : 8 Question Id : 5459276876 Question Type : MCQ Option Shuffling : Yes Display Question Number : Yes
Single Line Question Option : No Option Orientation : Vertical

Correct Marks : 1 Wrong Marks : 0.25

In the following question, select the related word from the given alternatives.

Five : Pentagon :: Three : ?

Options :

1. ✘ Square
2. ✘ Rhombus
3. ✔ Triangle
4. ✘ Rectangle

Question Number : 8 Question Id : 5459276876 Question Type : MCQ Option Shuffling : Yes Display Question Number : Yes
Single Line Question Option : No Option Orientation : Vertical

Correct Marks : 1 Wrong Marks : 0.25

निम्नलिखित प्रश्न में दिए गए विकल्पों में से संबंधित शब्द युग्म को चुनिए।

पाँच : पंचभुज :: तीन : ?

Options :

1. ✘ वर्ग
2. ✘ समचतुर्भुज
3. ✔ त्रिभुज
4. ✘ आयत

Question Number : 9 Question Id : 5459276877 Question Type : MCQ Option Shuffling : Yes Display Question Number : Yes
Single Line Question Option : No Option Orientation : Vertical

Correct Marks : 1 Wrong Marks : 0.25

In the following question, select the related letter pair from the given alternatives.

GHLP : IKPU :: ?

Options :

1. ✓ CGKO : EJOT
2. ✗ FGHI : HJMN
3. ✗ ACDH : CFOR
4. ✗ PSTW : WYZA

Question Number : 9 Question Id : 5459276877 Question Type : MCQ Option Shuffling : Yes Display Question Number : Yes
Single Line Question Option : No Option Orientation : Vertical

Correct Marks : 1 Wrong Marks : 0.25

निम्नलिखित प्रश्न में दिए गए विकल्पों में से संबंधित अक्षर युग्म को चुनिए।

GHLP : IKPU :: ?

Options :

1. ✓ CGKO : EJOT
2. ✗ FGHI : HJMN
3. ✗ ACDH : CFOR
4. ✗ PSTW : WYZA

Question Number : 10 Question Id : 5459276878 Question Type : MCQ Option Shuffling : Yes Display Question Number : Yes
Single Line Question Option : No Option Orientation : Vertical

Correct Marks : 1 Wrong Marks : 0.25

In a certain code language, 'MILK' is called as 'PURE', 'PURE' is called as 'BLOOD', 'BLOOD' is called as 'RED', 'RED' is called as 'BIRD', 'BIRD' is called as 'DRY'. Which colour is used to show danger?

Options :

1. ✗ RED
2. ✓ BIRD
3. ✗ MILK
4. ✗ BLOOD

Question Number : 10 Question Id : 5459276878 Question Type : MCQ Option Shuffling : Yes Display Question Number : Yes
Single Line Question Option : No Option Orientation : Vertical

Correct Marks : 1 Wrong Marks : 0.25

एक विशिष्ट कोड भाषा में, 'दूध' को 'शुद्ध' कहा जाता है, 'शुद्ध' को 'रक्त' कहा जाता है, 'रक्त' को 'लाल' कहा जाता है, 'लाल' को 'पक्षी' कहा जाता है, 'पक्षी' को 'सूखा' कहा जाता है। कौन से रंग का उपयोग खतरे को दर्शाने के लिए किया जाता है?

Options :

1. ✗ लाल
2. ✓ पक्षी
3. ✗ दूध
4. ✗ रक्त

Question Number : 11 Question Id : 5459276879 Question Type : MCQ Option Shuffling : Yes Display Question Number : Yes
Single Line Question Option : No Option Orientation : Vertical

Correct Marks : 1 Wrong Marks : 0.25

In a certain code language, 'BULB' is written as '190', 'CALM' is written as '150'. What is the code for 'DOES' in that code language?

Options :

1. ✗ 160

2. ✘ 210
3. ✘ 180
4. ✔ 220

Question Number : 11 Question Id : 5459276879 Question Type : MCQ Option Shuffling : Yes Display Question Number : Yes
Single Line Question Option : No Option Orientation : Vertical

Correct Marks : 1 Wrong Marks : 0.25

एक विशिष्ट कोड भाषा में, 'BULB' को '190' लिखा जाता है, 'CALM' को '150' लिखा जाता है। इस कोड भाषा में 'DOES' का कोड क्या है?

Options :

1. ✘ 160
2. ✘ 210
3. ✘ 180
4. ✔ 220

Question Number : 12 Question Id : 5459276880 Question Type : MCQ Option Shuffling : Yes Display Question Number : Yes
Single Line Question Option : No Option Orientation : Vertical

Correct Marks : 1 Wrong Marks : 0.25

In a certain code language, 'ENSOUL' is written as 'IJKYH'. What is the code for 'CHEWED' in that code language?

Options :

1. ✘ GCDSCZ
2. ✔ GDISIZ
3. ✘ GDCSCZ
4. ✘ GDHSHZ

Question Number : 12 Question Id : 5459276880 Question Type : MCQ Option Shuffling : Yes Display Question Number : Yes
Single Line Question Option : No Option Orientation : Vertical

Correct Marks : 1 Wrong Marks : 0.25

एक विशिष्ट कोड भाषा में, 'ENSOUL' को 'IJKYH' लिखा जाता है। इस कोड भाषा में 'CHEWED' का कोड क्या है?

Options :

1. ✘ GCDSCZ
2. ✔ GDISIZ
3. ✘ GDCSCZ
4. ✘ GDHSHZ

Question Number : 13 Question Id : 5459276881 Question Type : MCQ Option Shuffling : Yes Display Question Number : Yes
Single Line Question Option : No Option Orientation : Vertical

Correct Marks : 1 Wrong Marks : 0.25

Riya is younger than Ram. Kishan is younger than Ram but elder than Riya. Sandhya is elder than Sheetal and Ram both. Ram is younger than Sheetal. Among these five, who is the third youngest?

Options :

1. ✔ Ram
2. ✘ Kishan
3. ✘ Riya
4. ✘ Sheetal

Question Number : 13 Question Id : 5459276881 Question Type : MCQ Option Shuffling : Yes Display Question Number : Yes
Single Line Question Option : No Option Orientation : Vertical

Correct Marks : 1 Wrong Marks : 0.25

रिया, राम से छोटी है किशन, राम से छोटा है, लेकिन रिया से बड़ा है। संध्या, शीतल और राम दोनों से बड़ी है। राम, शीतल से छोटा है। इन पाँचों में से तीसरा सबसे छोटा कौन है?

Options :

1. ✓ राम
2. ✗ किशन
3. ✗ रिया
4. ✗ शीतल

Question Number : 14 Question Id : 5459276882 Question Type : MCQ Option Shuffling : Yes Display Question Number : Yes Single Line Question Option : No Option Orientation : Vertical

Correct Marks : 1 Wrong Marks : 0.25

A, B, C, D, E, F and G are seven coaches. Each one among them is a coach of a different game. The games are Hockey, Cricket, Badminton, Tennis, Volleyball, Basketball and Football (not necessarily in the same order). Each of them trains on one of the seven days of the week from Monday to Sunday (not necessarily in the same order). No two coaches train on the same day of a week. C trains Badminton on Friday. B teaches Volleyball on the previous day of the day on which a coach trains Hockey. G trains on Sunday but does not train Cricket or Tennis. D trains Basketball on the previous day of the day on which F trains. A trains Football on Tuesday. E does not train Tennis. On which day does F train?

Options :

1. ✗ Monday
2. ✗ Wednesday
3. ✓ Thursday
4. ✗ Friday

Question Number : 14 Question Id : 5459276882 Question Type : MCQ Option Shuffling : Yes Display Question Number : Yes Single Line Question Option : No Option Orientation : Vertical

Correct Marks : 1 Wrong Marks : 0.25

A, B, C, D, E, F और G सात कोच हैं। उनमें से प्रत्येक एक अलग खेल का कोच है। खेल हॉकी, क्रिकेट, बैडमिंटन, टेनिस, वॉलीबॉल, बास्केटबॉल और फुटबॉल हैं (जरूरी नहीं की इसी क्रम में हों)। उनमें से प्रत्येक सोमवार से रविवार तक सप्ताह के सात दिनों में से एक दिन पर सिखाता है (जरूरी नहीं की इसी क्रम में हों)। कोई भी दो कोच सप्ताह के समान दिन पर नहीं सिखाते हैं। C शुक्रवार को बैडमिंटन सिखाता है। B उस दिन से एक दिन पहले वॉलीबॉल सिखाता है जिस दिन कोई एक कोच हॉकी सिखाता है। G रविवार को सिखाता है, लेकिन क्रिकेट या टेनिस नहीं सिखाता है। जिस दिन F सिखाता है D उससे एक दिन पहले बास्केटबॉल सिखाता है। A मंगलवार को फुटबॉल सिखाता है। E टेनिस नहीं सिखाता है। F किस दिन सिखाता है?

Options :

1. ✗ सोमवार
2. ✗ बुधवार
3. ✓ बृहस्पतिवार
4. ✗ शुक्रवार

Question Number : 15 Question Id : 5459276883 Question Type : MCQ Option Shuffling : Yes Display Question Number : Yes Single Line Question Option : No Option Orientation : Vertical

Correct Marks : 1 Wrong Marks : 0.25

A team of five persons is to be selected from amongst five girls A, B, C, D and E and four boys P, Q, R and S. Some criteria for selection are: E and P have to be together. S and Q cannot be together. B and R cannot be together. C and A have to be together. Q and D cannot be together. If Q is one of the selected members, then who can be the other members of the team?

Options :

1. ✗ S, R, D, C
2. ✗ R, S, C, A
3. ✓ E, P, B, R
4. ✗ P, S, C, A

Question Number : 15 Question Id : 5459276883 Question Type : MCQ Option Shuffling : Yes Display Question Number : Yes
Single Line Question Option : No Option Orientation : Vertical

Correct Marks : 1 Wrong Marks : 0.25

पाँच लड़कियों A, B, C, D और E तथा चार लड़कों P, Q, R और S में से पाँच व्यक्तियों की एक टीम चुनी जानी है। चयन के लिए कुछ मानदंड हैं: E और P एक साथ होंगे S और Q एक साथ नहीं हो सकते B और R एक साथ नहीं हो सकते C और A एक साथ होंगे Q और D एक साथ नहीं हो सकते यदि Q चयनित सदस्यों में से एक है, तो टीम के अन्य सदस्य कौन हो सकते हैं?

Options :

- ✘ S, R, D, C
- ✘ R, S, C, A
- ✔ E, P, B, R
- ✘ P, S, C, A

Question Number : 16 Question Id : 5459276884 Question Type : MCQ Option Shuffling : Yes Display Question Number : Yes
Single Line Question Option : No Option Orientation : Vertical

Correct Marks : 1 Wrong Marks : 0.25

Pointing a woman in the photo, Keshav said that "it is the photo of my mother's, only son's father's younger sister." What is the relation of that person in the photo with keshav?

Options :

- ✘ Mother
- ✘ Sister
- ✔ Paternal aunt
- ✘ Wife

Question Number : 16 Question Id : 5459276884 Question Type : MCQ Option Shuffling : Yes Display Question Number : Yes
Single Line Question Option : No Option Orientation : Vertical

Correct Marks : 1 Wrong Marks : 0.25

फोटो में एक महिला की ओर संकेत करते हुए, केशव ने कहा कि "यह मेरी माता के इकलौते पुत्र के पिता की छोटी बहन की फोटो है।" फोटो में जो व्यक्ति है उसका केशव के साथ क्या संबंध है?

Options :

- ✘ माँ
- ✘ बहन
- ✔ बुआ
- ✘ पत्नी

Question Number : 17 Question Id : 5459276885 Question Type : MCQ Option Shuffling : Yes Display Question Number : Yes
Single Line Question Option : No Option Orientation : Vertical

Correct Marks : 1 Wrong Marks : 0.25

A, B, C, D and E are five members of a family. In this family there is a doctor, a teacher, a professor, a inspector and a businessman. A is the son of a professor. D is an unmarried lady. In the family there is a married couple in which B is the husband. E is the brother of C and he is neither a teacher nor a businessman. Son of the married couple is not the teacher. There is no lady doctor in the family. The teacher is not married. Who is the teacher?

Options :

- ✘ A
- ✘ B
- ✘ C
- ✔ D

Question Number : 17 Question Id : 5459276885 Question Type : MCQ Option Shuffling : Yes Display Question Number : Yes
Single Line Question Option : No Option Orientation : Vertical

Correct Marks : 1 Wrong Marks : 0.25

A, B, C, D और E एक परिवार के पाँच सदस्य हैं। इस परिवार में एक डॉक्टर, एक शिक्षक, एक प्रोफेसर, एक इंस्पेक्टर और एक व्यापारी हैं। A एक प्रोफेसर का पुत्र है, D एक अविवाहित महिला है। परिवार में एक विवाहित जोड़ा है, जिसमें B पति है। E, C का भाई है और वह न तो शिक्षक है और न ही व्यापारी है। विवाहित जोड़े का पुत्र शिक्षक नहीं है। परिवार में कोई महिला डॉक्टर नहीं है। शिक्षक विवाहित नहीं है। शिक्षक कौन है?

Options :

1. ✘ A
2. ✘ B
3. ✘ C
4. ✔ D

Question Number : 18 Question Id : 5459276886 Question Type : MCQ Option Shuffling : Yes Display Question Number : Yes
Single Line Question Option : No Option Orientation : Vertical

Correct Marks : 1 Wrong Marks : 0.25

In the following question below are given some statements followed by some conclusions based on those statements. Taking the given statements to be true even if they seem to be at variance from commonly known facts. Read all the conclusions and then decide which of the given conclusion logically follows the given statements.

Statements:

- I. All books are tables.
- II. All chairs are books.

Conclusions:

- I. Some tables are books.
- II. All books are chairs.

Options :

1. ✔ Only conclusion I follow
2. ✘ Only conclusion II follow
3. ✘ Both conclusion I and II follow
4. ✘ Neither conclusion follow

Question Number : 18 Question Id : 5459276886 Question Type : MCQ Option Shuffling : Yes Display Question Number : Yes
Single Line Question Option : No Option Orientation : Vertical

Correct Marks : 1 Wrong Marks : 0.25

नीचे दिए गए प्रश्न में कुछ कथन और उनके बाद उन कथनों पर आधारित कुछ निष्कर्ष दिए गए हैं। दिए गए कथनों को सही माने, चाहे उनमें सामान्य ज्ञात तथ्यों से भिन्नता हो। सभी निष्कर्ष पढ़ें और फिर निर्धारित करें कि दिए गए कौन से निष्कर्ष, दिए गए कथनों के आधार पर युक्तिसंगत हैं।

कथन:

- I. सभी किताबें मेज हैं।
- II. सभी कुर्सियाँ किताबें हैं।

निष्कर्ष:

- I. कुछ मेज किताबें हैं।
- II. सभी किताबें कुर्सियाँ हैं।

Options :

1. ✔ केवल निष्कर्ष I अनुसरण करता है।
2. ✘ केवल निष्कर्ष II अनुसरण करता है।
3. ✘ दोनों निष्कर्ष I तथा II अनुसरण करते हैं।
4. ✘ कोई भी निष्कर्ष अनुसरण नहीं करता है।

Question Number : 19 Question Id : 5459276887 Question Type : MCQ Option Shuffling : Yes Display Question Number : Yes
Single Line Question Option : No Option Orientation : Vertical

Correct Marks : 1 Wrong Marks : 0.25

In the following question below are given some statements followed by some conclusions based on those statements. Taking the given statements to be true even if they seem to be at variance from commonly known facts. Read all the conclusions and then decide which of the given conclusion logically follows the given statements.

Statements:

- I. Some chairs are pens.
- II. Some pens are cups.
- III. All cups are tables.

Conclusions:

- I. Some tables are chairs.
- II. Some cups are pens.
- III. All tables are pens.

Options :

1. ✘ Only conclusion I follow
2. ✘ Only conclusion III follow
3. ✔ Only conclusion II follow
4. ✘ Neither conclusion follow

Question Number : 19 Question Id : 5459276887 Question Type : MCQ Option Shuffling : Yes Display Question Number : Yes
Single Line Question Option : No Option Orientation : Vertical

Correct Marks : 1 Wrong Marks : 0.25

नीचे दिए गए प्रश्न में कुछ कथन और उनके बाद उन कथनों पर आधारित कुछ निष्कर्ष दिए गए हैं। दिए गए कथनों को सही माने, चाहे उनमें सामान्य ज्ञात तथ्यों से भिन्नता हो। सभी निष्कर्ष पढ़ें और फिर निर्धारित करें कि दिए गए कौन से निष्कर्ष, दिए गए कथनों के आधार पर युक्तिसंगत हैं।

कथन:

- I. कुछ कुर्सियाँ कलम हैं।
- II. कुछ कलम कप हैं।
- III. सभी कप मेज हैं।

निष्कर्ष:

- I. कुछ मेज कुर्सियाँ हैं।
- II. कुछ कप कलम हैं।
- III. सभी मेज कलम हैं।

Options :

1. ✘ केवल निष्कर्ष I अनुसरण करता है।
2. ✘ केवल निष्कर्ष III अनुसरण करता है।
3. ✔ केवल निष्कर्ष II अनुसरण करता है।
4. ✘ कोई भी निष्कर्ष अनुसरण नहीं करता है।

Question Number : 20 Question Id : 5459276888 Question Type : MCQ Option Shuffling : Yes Display Question Number : Yes
Single Line Question Option : No Option Orientation : Vertical

Correct Marks : 1 Wrong Marks : 0.25

In the following question, four number pairs are given. The number on left side of (-) is related to the number of the right side of (-) with some Logic/Rule/Relation. Three are similar on basis of same Logic/Rule/Relation. Select the odd one out from the given alternatives.

Options :

1. ✘ 2114 - 294
2. ✘ 2517 - 425
3. ✔ 4619 - 854
4. ✘ 3226 - 832

Question Number : 20 Question Id : 5459276888 Question Type : MCQ Option Shuffling : Yes Display Question Number : Yes
Single Line Question Option : No Option Orientation : Vertical

Correct Marks : 1 Wrong Marks : 0.25

नीचे दिए गए प्रश्न में, चार संख्या युग्म दिए गए हैं (-) के बायीं ओर दी गई संख्या (-) के दायीं ओर दी गई संख्या से किसी तर्क/नियम/संबंध से संबंधित है। तीन उसी एक तर्क/नियम/संबंध के आधार पर समान हैं। दिए गए विकल्पों में से विषम को चुनिए।

Options :

1. ✘ 2114 - 294
2. ✘ 2517 - 425
3. ✔ 4619 - 854
4. ✘ 3226 - 832

Mental Ability2

| | |
|---|-----------|
| Group Number : | 2 |
| Group Id : | 545927342 |
| Group Maximum Duration : | 0 |
| Group Minimum Duration : | 0 |
| Revisit allowed for view? : | No |
| Revisit allowed for edit? : | No |
| Break time: | 0 |
| Group Marks: | 20 |
| Revisit allowed for group Instructions? : | Yes |
| Maximum Instruction Time: | 0 |
| Minimum Instruction Time: | 0 |

Mental Ability2

| | |
|--------------------------------------|-----------|
| Section Id : | 545927342 |
| Section Number : | 1 |
| Section type : | Online |
| Mandatory or Optional: | Mandatory |
| Number of Questions: | 20 |
| Number of Questions to be attempted: | 20 |
| Section Marks: | 20 |
| Display Number Panel: | Yes |
| Group All Questions: | No |

| | |
|------------------------------|-----------|
| Sub-Section Number: | 1 |
| Sub-Section Id: | 545927410 |
| Question Shuffling Allowed : | Yes |

Question Number : 21 Question Id : 5459276889 Question Type : MCQ Option Shuffling : Yes Display Question Number : Yes
Single Line Question Option : No Option Orientation : Vertical

Correct Marks : 1 Wrong Marks : 0.25

In the following question, four number pairs are given. The number on left side of (-) is related to the number of the right side of (-) with some Logic/Rule/Relation. Three are similar on basis of same Logic/Rule/Relation. Select the odd one out from the given alternatives.

Options :

1. ✘ 256 - 60
2. ✘ 472 - 56

3. ✓ 321 - 23

4. ✗ 137 - 21

Question Number : 21 Question Id : 5459276889 Question Type : MCQ Option Shuffling : Yes Display Question Number : Yes
Single Line Question Option : No Option Orientation : Vertical

Correct Marks : 1 Wrong Marks : 0.25

नीचे दिए गए प्रश्न में, चार संख्या युग्म दिए गए हैं (-) के बायीं ओर दी गई संख्या (-) के दायीं ओर दी गई संख्या से किसी तर्क/नियम/संबंध से संबंधित है। तीन उसी एक तर्क/नियम/संबंध के आधार पर समान हैं। दिए गए विकल्पों में से विषम को चुनिए।

Options :

1. ✗ 256 - 60

2. ✗ 472 - 56

3. ✓ 321 - 23

4. ✗ 137 - 21

Question Number : 22 Question Id : 5459276890 Question Type : MCQ Option Shuffling : Yes Display Question Number : Yes
Single Line Question Option : No Option Orientation : Vertical

Correct Marks : 1 Wrong Marks : 0.25

In the following question, select the related number from the given alternatives.

28 : 784 :: 56 : ?

Options :

1. ✗ 4242

2. ✓ 3136

3. ✗ 2996

4. ✗ 3436

Question Number : 22 Question Id : 5459276890 Question Type : MCQ Option Shuffling : Yes Display Question Number : Yes
Single Line Question Option : No Option Orientation : Vertical

Correct Marks : 1 Wrong Marks : 0.25

निम्नलिखित प्रश्न में दिए गए विकल्पों में से संबंधित संख्या को चुनिए।

28 : 784 :: 56 : ?

Options :

1. ✗ 4242

2. ✓ 3136

3. ✗ 2996

4. ✗ 3436

Question Number : 23 Question Id : 5459276891 Question Type : MCQ Option Shuffling : Yes Display Question Number : Yes
Single Line Question Option : No Option Orientation : Vertical

Correct Marks : 1 Wrong Marks : 0.25

In the following question, select the related number from the given alternatives.

298 : 149 :: 473 : ?

Options :

1. ✗ 68

2. ✗ 86

3. ✗ 132

4. ✓ 74

Question Number : 23 Question Id : 5459276891 Question Type : MCQ Option Shuffling : Yes Display Question Number : Yes
Single Line Question Option : No Option Orientation : Vertical

Correct Marks : 1 Wrong Marks : 0.25

निम्नलिखित प्रश्न में दिए गए विकल्पों में से संबंधित संख्या को चुनिए।

298 : 149 :: 473 : ?

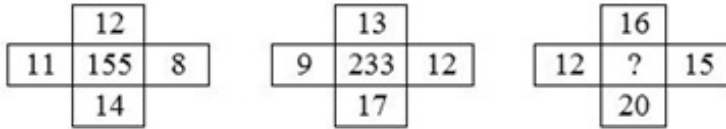
Options :

1. ✘ 68
2. ✘ 86
3. ✘ 132
4. ✔ 74

Question Number : 24 Question Id : 5459276892 Question Type : MCQ Option Shuffling : Yes Display Question Number : Yes
Single Line Question Option : No Option Orientation : Vertical

Correct Marks : 1 Wrong Marks : 0.25

In the following question, select the number which can be placed at the sign of question mark (?) from the given alternatives.



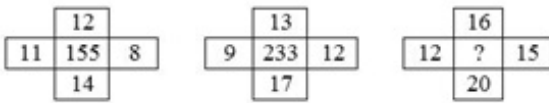
Options :

1. ✔ 287
2. ✘ 397
3. ✘ 256
4. ✘ 307

Question Number : 24 Question Id : 5459276892 Question Type : MCQ Option Shuffling : Yes Display Question Number : Yes
Single Line Question Option : No Option Orientation : Vertical

Correct Marks : 1 Wrong Marks : 0.25

निम्नलिखित प्रश्न में दिए गए विकल्पों में से प्रश्न चिन्ह (?) के स्थान पर आने वाली संख्या को चुनिए।



Options :

1. ✔ 287
2. ✘ 397
3. ✘ 256
4. ✘ 307

Question Number : 25 Question Id : 5459276893 Question Type : MCQ Option Shuffling : Yes Display Question Number : Yes
Single Line Question Option : No Option Orientation : Vertical

Correct Marks : 1 Wrong Marks : 0.25

In the following question, select the number which can be placed at the sign of question mark (?) from the given alternatives.

| | | | |
|-----|----|----|-----|
| 12 | 8 | 15 | 21 |
| 13 | 9 | 16 | 22 |
| 14 | 10 | 17 | 23 |
| 117 | 45 | ? | 396 |

Options :

1. ✘ 252
2. ✘ 178
3. ✔ 192
4. ✘ 162

Question Number : 25 Question Id : 5459276893 Question Type : MCQ Option Shuffling : Yes Display Question Number : Yes
Single Line Question Option : No Option Orientation : Vertical

Correct Marks : 1 Wrong Marks : 0.25

निम्नलिखित प्रश्न में दिए गए विकल्पों में से प्रश्न चिन्ह (?) के स्थान पर आने वाली संख्या को चुनिए

| | | | |
|-----|----|----|-----|
| 12 | 8 | 15 | 21 |
| 13 | 9 | 16 | 22 |
| 14 | 10 | 17 | 23 |
| 117 | 45 | ? | 396 |

Options :

1. ✘ 252
2. ✘ 178
3. ✔ 192
4. ✘ 162

Question Number : 26 Question Id : 5459276894 Question Type : MCQ Option Shuffling : Yes Display Question Number : Yes
Single Line Question Option : No Option Orientation : Vertical

Correct Marks : 1 Wrong Marks : 0.25

If 'W' means '+', 'X' means '×', 'Y' means '-' and 'Z' means '÷', then $2 Y 448 W 112 X 4 X 2 Y 8 Z 15 = ?$

Options :

1. ✘ 25
2. ✘ 37
3. ✔ 27
4. ✘ 36

Question Number : 26 Question Id : 5459276894 Question Type : MCQ Option Shuffling : Yes Display Question Number : Yes
Single Line Question Option : No Option Orientation : Vertical

Correct Marks : 1 Wrong Marks : 0.25

यदि 'W' का अर्थ '+', 'X' का अर्थ '×', 'Y' का अर्थ '-' तथा 'Z' का अर्थ '÷' हो, तो $2 Y 448 W 112 X 4 X 2 Y 8 Z 15 = ?$

Options :

1. ✘ 25
2. ✘ 37
3. ✔ 27

4. ✖ 36

Question Number : 27 Question Id : 5459276895 Question Type : MCQ Option Shuffling : Yes Display Question Number : Yes
Single Line Question Option : No Option Orientation : Vertical

Correct Marks : 1 Wrong Marks : 0.25

In the following question, select the missing number from the given series.

1, 2, 6, 24, 120, ?

Options :

1. ✖ 240

2. ✔ 720

3. ✖ 680

4. ✖ 360

Question Number : 27 Question Id : 5459276895 Question Type : MCQ Option Shuffling : Yes Display Question Number : Yes
Single Line Question Option : No Option Orientation : Vertical

Correct Marks : 1 Wrong Marks : 0.25

निम्नलिखित प्रश्न में दी गई श्रृंखला में से लुप्त अंक ज्ञात कीजिए।

1, 2, 6, 24, 120, ?

Options :

1. ✖ 240

2. ✔ 720

3. ✖ 680

4. ✖ 360

Question Number : 28 Question Id : 5459276896 Question Type : MCQ Option Shuffling : Yes Display Question Number : Yes
Single Line Question Option : No Option Orientation : Vertical

Correct Marks : 1 Wrong Marks : 0.25

In the following question, select the missing number from the given series.

2, 6, 30, 60, 130, ?

Options :

1. ✖ 260

2. ✖ 216

3. ✔ 210

4. ✖ 384

Question Number : 28 Question Id : 5459276896 Question Type : MCQ Option Shuffling : Yes Display Question Number : Yes
Single Line Question Option : No Option Orientation : Vertical

Correct Marks : 1 Wrong Marks : 0.25

निम्नलिखित प्रश्न में दी गई श्रृंखला में से लुप्त अंक ज्ञात कीजिए।

2, 6, 30, 60, 130, ?

Options :

1. ✖ 260

2. ✖ 216

3. ✔ 210

4. ✖ 384

Question Number : 29 Question Id : 5459276897 Question Type : MCQ Option Shuffling : Yes Display Question Number : Yes
Single Line Question Option : No Option Orientation : Vertical

Correct Marks : 1 Wrong Marks : 0.25

In the following question, select the missing number from the given series.

2, 8, 14, 20, 26, ?

Options :

1. ✘ 30

2. ✘ 36

3. ✔ 32

4. ✘ 42

Question Number : 29 Question Id : 5459276897 Question Type : MCQ Option Shuffling : Yes Display Question Number : Yes
Single Line Question Option : No Option Orientation : Vertical

Correct Marks : 1 Wrong Marks : 0.25

निम्नलिखित प्रश्न में दी गई श्रृंखला में से लुप्त अंक ज्ञात कीजिए।

2, 8, 14, 20, 26, ?

Options :

1. ✘ 30

2. ✘ 36

3. ✔ 32

4. ✘ 42

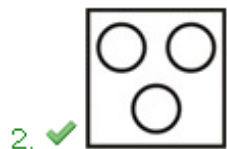
Question Number : 30 Question Id : 5459276898 Question Type : MCQ Option Shuffling : Yes Display Question Number : Yes
Single Line Question Option : No Option Orientation : Vertical

Correct Marks : 1 Wrong Marks : 0.25

Identify the diagram that best represents the relationship among the given classes.

Sun, Moon, Earth

Options :



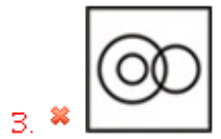
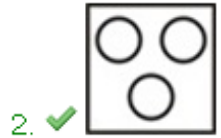
Question Number : 30 Question Id : 5459276898 Question Type : MCQ Option Shuffling : Yes Display Question Number : Yes
Single Line Question Option : No Option Orientation : Vertical

Correct Marks : 1 Wrong Marks : 0.25

वह आरेख चुनिए जो नीचे दिए गए वर्गों के बीच के संबंध का सही निरूपण करता है।

सूर्य, चंद्रमा, पृथ्वी

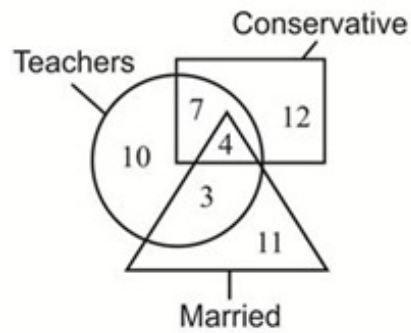
Options :



Question Number : 31 Question Id : 5459276899 Question Type : MCQ Option Shuffling : Yes Display Question Number : Yes
Single Line Question Option : No Option Orientation : Vertical

Correct Marks : 1 Wrong Marks : 0.25

In the given figure, how many teachers are neither married nor conservative?



Options :

1. ✘ 7

2. ✘ 12

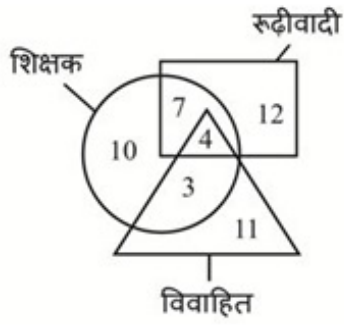
3. ✘ 11

4. ✔ 10

Question Number : 31 Question Id : 5459276899 Question Type : MCQ Option Shuffling : Yes Display Question Number : Yes
Single Line Question Option : No Option Orientation : Vertical

Correct Marks : 1 Wrong Marks : 0.25

दी गई आकृति में, कितने शिक्षक न तो विवाहित हैं न ही रूढ़ीवादी हैं?



Options :

1. ✘ 7
2. ✘ 12
3. ✘ 11
4. ✔ 10

Question Number : 32 Question Id : 5459276900 Question Type : MCQ Option Shuffling : Yes Display Question Number : Yes Single Line Question Option : No Option Orientation : Vertical

Correct Marks : 1 Wrong Marks : 0.25

Rohan walks 10 km towards north from a point A. Then he turns right and walks 6 km. Then, he again turns right and walks 10 km. In which direction is he now from the starting point?

Options :

1. ✘ North
2. ✘ North - east
3. ✔ East
4. ✘ South - east

Question Number : 32 Question Id : 5459276900 Question Type : MCQ Option Shuffling : Yes Display Question Number : Yes Single Line Question Option : No Option Orientation : Vertical

Correct Marks : 1 Wrong Marks : 0.25

रोहन बिंदु A से 10 कि.मी. उत्तर की ओर चलता है फिर वह दाएं मुड़ता है और 6 कि.मी. चलता है फिर वह पुनः दाएं मुड़ता है और 10 कि.मी. चलता है वह प्रारंभिक बिंदु से अब किस दिशा में है?

Options :

1. ✘ उत्तर
2. ✘ उत्तर-पूर्व
3. ✔ पूर्व
4. ✘ दक्षिण-पूर्व

Question Number : 33 Question Id : 5459276901 Question Type : MCQ Option Shuffling : Yes Display Question Number : Yes Single Line Question Option : No Option Orientation : Vertical

Correct Marks : 1 Wrong Marks : 0.25

Tejas walked 10 metre towards north. Then, he turned left and walked 10 metre. He turned right and walked 6 metre. At last he turned right and walked 10 metre. How far and in which direction is he now from his starting point?

Options :

1. ✔ 16 metre, North
2. ✘ 20 metre, North
3. ✘ 16 metre, South
4. ✘ 26 metre, North

Question Number : 33 Question Id : 5459276901 Question Type : MCQ Option Shuffling : Yes Display Question Number : Yes
Single Line Question Option : No Option Orientation : Vertical

Correct Marks : 1 Wrong Marks : 0.25

तेजस उत्तर की ओर 10 मीटर चला फिर वह बाईं ओर मुड़ा और 10 मीटर चला वह दाईं ओर मुड़ा और 6 मीटर चला अंत में वह दाईं ओर मुड़ा और 10 मीटर चला वह अपने प्रारंभिक बिंदु से अब कितनी दूर और किस दिशा में है?

Options :

1. ✓ 16 मीटर, उत्तर
2. ✗ 20 मीटर, उत्तर
3. ✗ 16 मीटर, दक्षिण
4. ✗ 26 मीटर, उत्तर

Question Number : 34 Question Id : 5459276902 Question Type : MCQ Option Shuffling : Yes Display Question Number : Yes
Single Line Question Option : No Option Orientation : Vertical

Correct Marks : 1 Wrong Marks : 0.25

In the following question, select the odd figure from the given alternatives.

Options :



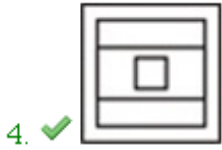
Question Number : 34 Question Id : 5459276902 Question Type : MCQ Option Shuffling : Yes Display Question Number : Yes
Single Line Question Option : No Option Orientation : Vertical

Correct Marks : 1 Wrong Marks : 0.25

निम्नलिखित प्रश्न में, दिए गए विकल्पों में से विषम आकृति को चुनिए।

Options :





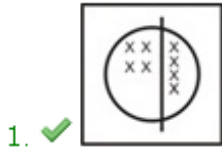
Question Number : 35 Question Id : 5459276903 Question Type : MCQ Option Shuffling : Yes Display Question Number : Yes
Single Line Question Option : No Option Orientation : Vertical

Correct Marks : 1 Wrong Marks : 0.25

In the following question, select the wrong figure from the given series.



Options :



Question Number : 35 Question Id : 5459276903 Question Type : MCQ Option Shuffling : Yes Display Question Number : Yes
Single Line Question Option : No Option Orientation : Vertical

Correct Marks : 1 Wrong Marks : 0.25

निम्नलिखित प्रश्न में, दी गयी श्रृंखला में से गलत आकृति को चुनिए।



Options :

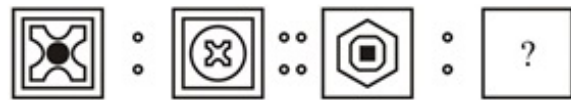




Question Number : 36 Question Id : 5459276904 Question Type : MCQ Option Shuffling : Yes Display Question Number : Yes
Single Line Question Option : No Option Orientation : Vertical

Correct Marks : 1 Wrong Marks : 0.25

Two figures given on the left side of (::) are related with some logic/rule/relation. Select the missing figure on the right of (::) from the given alternatives based on the same logic/rule/relation.



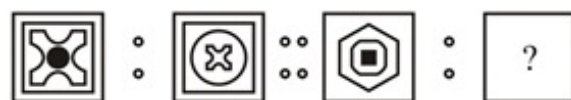
Options :



Question Number : 36 Question Id : 5459276904 Question Type : MCQ Option Shuffling : Yes Display Question Number : Yes
Single Line Question Option : No Option Orientation : Vertical

Correct Marks : 1 Wrong Marks : 0.25

(::) के बायीं ओर दी गयी दो आकृतियाँ किसी तर्क/नियम/संबंध से संबंधित हैं। दिये गये विकल्पों में से (:) के दायीं ओर समान तर्क/नियम/संबंध पर आधारित लुप्त आकृति को चुनिये।



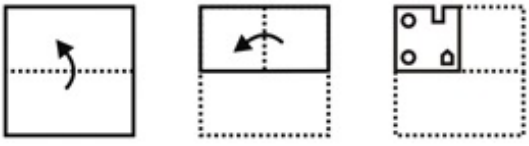
Options :



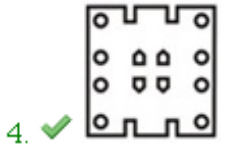
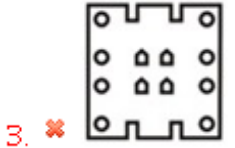
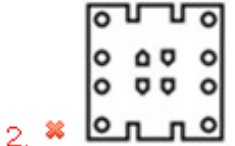
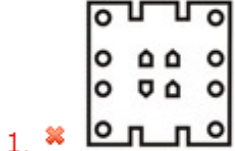
Question Number : 37 Question Id : 5459276905 Question Type : MCQ Option Shuffling : Yes Display Question Number : Yes
 Single Line Question Option : No Option Orientation : Vertical

Correct Marks : 1 Wrong Marks : 0.25

A piece of paper is folded and punched as shown below in the question figures. From the given answer figures, indicate how it will appear when opened?



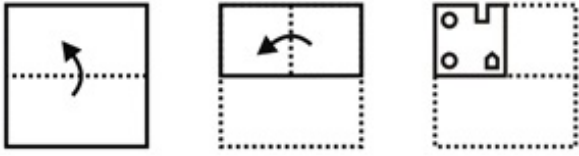
Options :



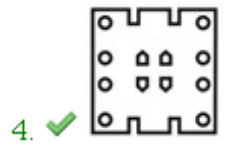
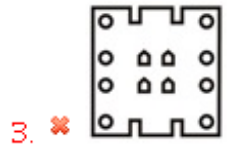
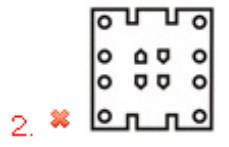
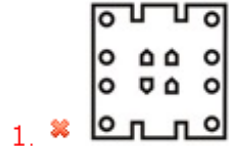
Question Number : 37 Question Id : 5459276905 Question Type : MCQ Option Shuffling : Yes Display Question Number : Yes
 Single Line Question Option : No Option Orientation : Vertical

Correct Marks : 1 Wrong Marks : 0.25

नीचे के प्रश्न आकृतियों में दिखाए अनुसार कागज को मोड़कर छेदने तथा खोलने के बाद वह किस उत्तर आकृति जैसा दिखाई देगा?



Options :



Question Number : 38 Question Id : 5459276906 Question Type : MCQ Option Shuffling : Yes Display Question Number : Yes
 Single Line Question Option : No Option Orientation : Vertical

Correct Marks : 1 Wrong Marks : 0.25

Which answer figure will complete the pattern in the question figure?



Options :





Question Number : 38 Question Id : 5459276906 Question Type : MCQ Option Shuffling : Yes Display Question Number : Yes
Single Line Question Option : No Option Orientation : Vertical

Correct Marks : 1 Wrong Marks : 0.25

कौन सी उत्तर आकृति प्रश्न आकृति के प्रतिरूप को पूरा करेगी?



Options :



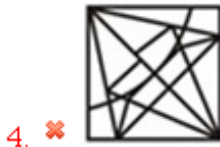
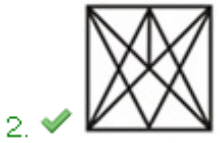
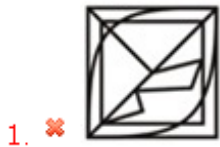
Question Number : 39 Question Id : 5459276907 Question Type : MCQ Option Shuffling : Yes Display Question Number : Yes
Single Line Question Option : No Option Orientation : Vertical

Correct Marks : 1 Wrong Marks : 0.25

From the given answer figures, select the one in which the question figure is hidden/embedded.



Options :



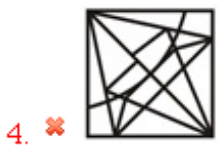
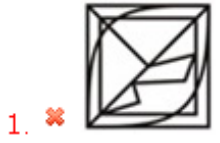
Question Number : 39 Question Id : 5459276907 Question Type : MCQ Option Shuffling : Yes Display Question Number : Yes
Single Line Question Option : No Option Orientation : Vertical

Correct Marks : 1 Wrong Marks : 0.25

दी गई उत्तर आकृतियों में से उस उत्तर आकृति को चुनिए जिस में प्रश्न आकृति निहित है।



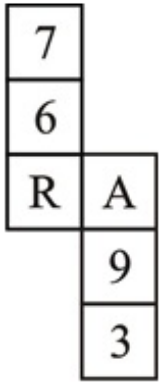
Options :



Question Number : 40 Question Id : 5459276908 Question Type : MCQ Option Shuffling : Yes Display Question Number : Yes
Single Line Question Option : No Option Orientation : Vertical

Correct Marks : 1 Wrong Marks : 0.25

By folding the given paper, which of the following cube cannot be made?



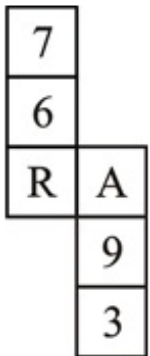
Options :



Question Number : 40 Question Id : 5459276908 Question Type : MCQ Option Shuffling : Yes Display Question Number : Yes
 Single Line Question Option : No Option Orientation : Vertical

Correct Marks : 1 Wrong Marks : 0.25

दिए गए कागज को मोड़ने पर, निम्नलिखित में से कौन सा घन नहीं बनाया जा सकता है?



Options :



General Awareness1

| | |
|--|-----------|
| Group Number : | 3 |
| Group Id : | 545927343 |
| Group Maximum Duration : | 0 |
| Group Minimum Duration : | 0 |
| Revisit allowed for view? : | No |
| Revisit allowed for edit? : | No |
| Break time: | 0 |
| Group Marks: | 20 |
| Revisit allowed for group Instructions? : | Yes |
| Maximum Instruction Time: | 0 |
| Minimum Instruction Time: | 0 |

General Awareness1

| | |
|---|-----------|
| Section Id : | 545927343 |
| Section Number : | 1 |
| Section type : | Online |
| Mandatory or Optional: | Mandatory |
| Number of Questions: | 20 |
| Number of Questions to be attempted: | 20 |
| Section Marks: | 20 |
| Display Number Panel: | Yes |
| Group All Questions: | No |

| | |
|----------------------------|-----------|
| Sub-Section Number: | 1 |
| Sub-Section Id: | 545927411 |

Question Shuffling Allowed :

Yes

Question Number : 41 Question Id : 5459276909 Question Type : MCQ Option Shuffling : Yes Display Question Number : Yes
Single Line Question Option : No Option Orientation : Vertical

Correct Marks : 1 Wrong Marks : 0.25

Which of the following state - folk dance pair is NOT correct?

Options :

- ✓ Rajasthan - Jhumar
- ✗ Gujarat - Dandiya Raas
- ✗ Punjab - Bhangra
- ✗ Maharashtra - Lavani

Question Number : 41 Question Id : 5459276909 Question Type : MCQ Option Shuffling : Yes Display Question Number : Yes
Single Line Question Option : No Option Orientation : Vertical

Correct Marks : 1 Wrong Marks : 0.25

निम्नलिखित में से कौन सा राज्य - लोक नृत्य का युग्म सही नहीं है?

Options :

- ✓ राजस्थान - झुमर
- ✗ गुजरात - डांडिया रास
- ✗ पंजाब - भांगड़ा
- ✗ महाराष्ट्र - लावणी

Question Number : 42 Question Id : 5459276910 Question Type : MCQ Option Shuffling : Yes Display Question Number : Yes
Single Line Question Option : No Option Orientation : Vertical

Correct Marks : 1 Wrong Marks : 0.25

In which of the following state the Kamakhya temple is situated?

Options :

- ✗ Uttar Pradesh
- ✓ Assam
- ✗ Manipur
- ✗ Madhya Pradesh

Question Number : 42 Question Id : 5459276910 Question Type : MCQ Option Shuffling : Yes Display Question Number : Yes
Single Line Question Option : No Option Orientation : Vertical

Correct Marks : 1 Wrong Marks : 0.25

कामख्या मंदिर निम्नलिखित में से किस राज्य में स्थित है?

Options :

- ✗ उत्तर प्रदेश
- ✓ असम
- ✗ मणिपुर
- ✗ मध्य प्रदेश

Question Number : 43 Question Id : 5459276911 Question Type : MCQ Option Shuffling : Yes Display Question Number : Yes
Single Line Question Option : No Option Orientation : Vertical

Correct Marks : 1 Wrong Marks : 0.25

Who among the following is a Sitar player?

Options :

- ✓ Smita Nagdev
- ✗ Daya Shankar

3. ✘ Anant Lal

4. ✘ Zakir Hussain

Question Number : 43 Question Id : 5459276911 Question Type : MCQ Option Shuffling : Yes Display Question Number : Yes
Single Line Question Option : No Option Orientation : Vertical

Correct Marks : 1 Wrong Marks : 0.25

निम्नलिखित में से कौन एक सितार वादक है?

Options :

1. ✔ स्मिता नागदेव

2. ✘ दया शंकर

3. ✘ अनंत लाल

4. ✘ जाकिर हुसैन

Question Number : 44 Question Id : 5459276912 Question Type : MCQ Option Shuffling : Yes Display Question Number : Yes
Single Line Question Option : No Option Orientation : Vertical

Correct Marks : 1 Wrong Marks : 0.25

In which month the Pongal festival is celebrated?

Options :

1. ✘ March

2. ✘ May

3. ✔ January

4. ✘ August

Question Number : 44 Question Id : 5459276912 Question Type : MCQ Option Shuffling : Yes Display Question Number : Yes
Single Line Question Option : No Option Orientation : Vertical

Correct Marks : 1 Wrong Marks : 0.25

पोंगल त्योहार किस महीने में मनाया जाता है?

Options :

1. ✘ मार्च

2. ✘ मई

3. ✔ जनवरी

4. ✘ अगस्त

Question Number : 45 Question Id : 5459276913 Question Type : MCQ Option Shuffling : Yes Display Question Number : Yes
Single Line Question Option : No Option Orientation : Vertical

Correct Marks : 1 Wrong Marks : 0.25

Which of the following is NOT a component of Government Budget?

Options :

1. ✘ Revenue Expenditure

2. ✘ Capital Receipts

3. ✔ Gender Budget

4. ✘ Capital Expenditure

Question Number : 45 Question Id : 5459276913 Question Type : MCQ Option Shuffling : Yes Display Question Number : Yes
Single Line Question Option : No Option Orientation : Vertical

Correct Marks : 1 Wrong Marks : 0.25

निम्नलिखित में से कया सरकारी बजट का भाग नहीं है?

Options :

1. ✘ राजस्व व्यय

2. ✘ पूंजीगत प्राप्तियां
3. ✔ लैंगिक बजट
4. ✘ पूंजीगत व्यय

Question Number : 46 Question Id : 5459276914 Question Type : MCQ Option Shuffling : Yes Display Question Number : Yes
Single Line Question Option : No Option Orientation : Vertical

Correct Marks : 1 Wrong Marks : 0.25

What is the full form of NPA in context of Banking System?

Options :

1. ✔ Non-Performing Assets
2. ✘ National Productivity Authority
3. ✘ Non-Paying Assets
4. ✘ National Productivity Association

Question Number : 46 Question Id : 5459276914 Question Type : MCQ Option Shuffling : Yes Display Question Number : Yes
Single Line Question Option : No Option Orientation : Vertical

Correct Marks : 1 Wrong Marks : 0.25

बैंकिंग प्रणाली के संदर्भ में एन.पी.ए. का पूर्ण रूप क्या है?

Options :

1. ✔ नॉन परफॉर्मिंग एसेट्स
2. ✘ नैशनल प्रॉडक्टिविटी अथॉरिटी
3. ✘ नॉन-पेइंग एसेट्स
4. ✘ नैशनल प्रॉडक्टिविटी एसोसिएशन

Question Number : 47 Question Id : 5459276915 Question Type : MCQ Option Shuffling : Yes Display Question Number : Yes
Single Line Question Option : No Option Orientation : Vertical

Correct Marks : 1 Wrong Marks : 0.25

Which of the following is an agricultural bank?

Options :

1. ✘ SIDBI
2. ✘ Reserve Bank of India
3. ✘ State Bank of India
4. ✔ NABARD

Question Number : 47 Question Id : 5459276915 Question Type : MCQ Option Shuffling : Yes Display Question Number : Yes
Single Line Question Option : No Option Orientation : Vertical

Correct Marks : 1 Wrong Marks : 0.25

निम्नलिखित में से कौन सा बैंक एक कृषि बैंक है?

Options :

1. ✘ सिडबी
2. ✘ भारतीय रिजर्व बैंक
3. ✘ भारतीय स्टेट बैंक
4. ✔ नाबार्ड

Question Number : 48 Question Id : 5459276916 Question Type : MCQ Option Shuffling : Yes Display Question Number : Yes
Single Line Question Option : No Option Orientation : Vertical

Correct Marks : 1 Wrong Marks : 0.25

Substances used to test the acidity and basicity of a solution are known as _____.

Options :

1. ✘ Salt
2. ✘ Bases
3. ✔ Indicator
4. ✘ trainers

Question Number : 48 Question Id : 5459276916 Question Type : MCQ Option Shuffling : Yes Display Question Number : Yes
Single Line Question Option : No Option Orientation : Vertical

Correct Marks : 1 Wrong Marks : 0.25

किसी विलयन की अम्लता और क्षारकता का परीक्षण करने के लिए उपयोग किए जाने वाले पदार्थों को _____ के रूप में जाना जाता है।

Options :

1. ✘ लवण
2. ✘ क्षारक
3. ✔ सूचक
4. ✘ प्रशिक्षक

Question Number : 49 Question Id : 5459276917 Question Type : MCQ Option Shuffling : Yes Display Question Number : Yes
Single Line Question Option : No Option Orientation : Vertical

Correct Marks : 1 Wrong Marks : 0.25

Which of the following statement(s) is/are true about suspension?

- (I) Particles do not scatter beam of light passing through it.
- (II) It's a heterogeneous mixture.
- (III) It's a homogenous mixture.
- (IV) Particles can be seen by naked eye.

Options :

1. ✘ Only II
2. ✘ Only III
3. ✔ II and IV
4. ✘ I and II

Question Number : 49 Question Id : 5459276917 Question Type : MCQ Option Shuffling : Yes Display Question Number : Yes
Single Line Question Option : No Option Orientation : Vertical

Correct Marks : 1 Wrong Marks : 0.25

निम्नलिखित में से कौन सा/से कथन निलंबन के बारे में सही है/हैं?

- (I) कण उनसे गुजरने वाली प्रकाश की किरण का प्रकीर्णन नहीं करते हैं।
- (II) यह एक विषमांगी मिश्रण है।
- (III) यह एक समांगी मिश्रण है।
- (IV) कणों को नम्र आंखों से देखा जा सकता है।

Options :

1. ✘ केवल I
2. ✘ केवल III
3. ✔ II तथा IV
4. ✘ I तथा II

Question Number : 50 Question Id : 5459276918 Question Type : MCQ Option Shuffling : Yes Display Question Number : Yes
Single Line Question Option : No Option Orientation : Vertical

Correct Marks : 1 Wrong Marks : 0.25

For separation of different gases from air, which process is used?

Options :

1. ✘ Distillation
2. ✘ Condensation
3. ✔ Fractional Distillation
4. ✘ Vaporization

Question Number : 50 Question Id : 5459276918 Question Type : MCQ Option Shuffling : Yes Display Question Number : Yes
Single Line Question Option : No Option Orientation : Vertical

Correct Marks : 1 Wrong Marks : 0.25

हवा से विभिन्न गैसों के पृथक्करण के लिए, किस प्रक्रिया का उपयोग किया जाता है।

Options :

1. ✘ आसवन
2. ✘ संघनन
3. ✔ प्रभाजी आवसन
4. ✘ वाष्पन

Question Number : 51 Question Id : 5459276919 Question Type : MCQ Option Shuffling : Yes Display Question Number : Yes
Single Line Question Option : No Option Orientation : Vertical

Correct Marks : 1 Wrong Marks : 0.25

The purpose of having standard units is _____.

Options :

1. ✘ easier measurements
2. ✔ uniformity in measurements
3. ✘ measurement of large quantities
4. ✘ measurement of small quantities

Question Number : 51 Question Id : 5459276919 Question Type : MCQ Option Shuffling : Yes Display Question Number : Yes
Single Line Question Option : No Option Orientation : Vertical

Correct Marks : 1 Wrong Marks : 0.25

मानक मात्रक (इकाइयाँ) होने का उद्देश्य _____ है।

Options :

1. ✘ आसान मापन
2. ✔ मापन में एकरूपता
3. ✘ बड़ी राशियों का मापन
4. ✘ छोटी राशियों का मापन

Question Number : 52 Question Id : 5459276920 Question Type : MCQ Option Shuffling : Yes Display Question Number : Yes
Single Line Question Option : No Option Orientation : Vertical

Correct Marks : 1 Wrong Marks : 0.25

_____ terminal of a cell must be joined with the _____ terminal of another cell to form a battery.

- I. Negative , positive
- II. Negative , Negative
- III. Positive , Positive

Options :

1. ✔ I
2. ✘ II
3. ✘ I and III
4. ✘ II and III

Question Number : 52 Question Id : 5459276920 Question Type : MCQ Option Shuffling : Yes Display Question Number : Yes
Single Line Question Option : No Option Orientation : Vertical

Correct Marks : 1 Wrong Marks : 0.25

बैटरी बनाने के लिए एक सेल का _____ टर्मिनल एक दूसरे सेल के _____ टर्मिनल के साथ जुड़ना चाहिए।

- I. ऋण, धन
- II. ऋण, ऋण
- III. धन, धन

Options :

1. ✓ I
2. ✗ II
3. ✗ I तथा III
4. ✗ II तथा III

Question Number : 53 Question Id : 5459276921 Question Type : MCQ Option Shuffling : Yes Display Question Number : Yes
Single Line Question Option : No Option Orientation : Vertical

Correct Marks : 1 Wrong Marks : 0.25

At puberty testosterone in human beings is released by _____.

Options :

1. ✗ Ovaries
2. ✓ Testes
3. ✗ Pituitary Gland
4. ✗ Adrenal Gland

Question Number : 53 Question Id : 5459276921 Question Type : MCQ Option Shuffling : Yes Display Question Number : Yes
Single Line Question Option : No Option Orientation : Vertical

Correct Marks : 1 Wrong Marks : 0.25

मानव में यौवनारम्भ टेस्टोस्टेरोन _____ द्वारा जारी किया जाता है।

Options :

1. ✗ अंडाशय (ओवरी)
2. ✓ वृषण (टेस्टिस)
3. ✗ पीयूष ग्रंथि (पिट्यूअररय ग्लान्ड्स)
4. ✗ एड्रिनल ग्रंथि (एड्रेनल ग्लान्ड्स)

Question Number : 54 Question Id : 5459276922 Question Type : MCQ Option Shuffling : Yes Display Question Number : Yes
Single Line Question Option : No Option Orientation : Vertical

Correct Marks : 1 Wrong Marks : 0.25

Which of the following parts of a flower forms part of stamen?

Options :

1. ✗ Stigma
2. ✗ Style
3. ✓ Anther
4. ✗ Sepal

Question Number : 54 Question Id : 5459276922 Question Type : MCQ Option Shuffling : Yes Display Question Number : Yes
Single Line Question Option : No Option Orientation : Vertical

Correct Marks : 1 Wrong Marks : 0.25

फूल का निम्नलिखित में से कौन सा भाग पुंकेसर का एक भाग बनता है?

Options :

1. ✗ वर्तिकाग्र

2. ✘ वर्तिका
3. ✔ परागकोश
4. ✘ बाह्य दल

Question Number : 55 Question Id : 5459276923 Question Type : MCQ Option Shuffling : Yes Display Question Number : Yes
Single Line Question Option : No Option Orientation : Vertical

Correct Marks : 1 Wrong Marks : 0.25

Outer membrane of Mitochondria is _____.

Options :

1. ✘ deeply folded
2. ✔ porous
3. ✘ non-porous
4. ✘ folded

Question Number : 55 Question Id : 5459276923 Question Type : MCQ Option Shuffling : Yes Display Question Number : Yes
Single Line Question Option : No Option Orientation : Vertical

Correct Marks : 1 Wrong Marks : 0.25

माईटोकॉन्ड्रिया की बाहरी झिल्ली _____ होती है।

Options :

1. ✘ अधिक वलित
2. ✔ छिद्रित
3. ✘ अछिद्रित
4. ✘ वलित

Question Number : 56 Question Id : 5459276924 Question Type : MCQ Option Shuffling : Yes Display Question Number : Yes
Single Line Question Option : No Option Orientation : Vertical

Correct Marks : 1 Wrong Marks : 0.25

Which of the following river does NOT flow into the Bay of Bengal?

Options :

1. ✘ Mahanadi
2. ✘ Brahmaputra
3. ✔ Tapi
4. ✘ Krishna

Question Number : 56 Question Id : 5459276924 Question Type : MCQ Option Shuffling : Yes Display Question Number : Yes
Single Line Question Option : No Option Orientation : Vertical

Correct Marks : 1 Wrong Marks : 0.25

निम्नलिखित में से कौन सी नदी बंगाल की खाड़ी में प्रवाहित नहीं होती है?

Options :

1. ✘ महानदी
2. ✘ ब्रह्मपुत्र
3. ✔ तापी
4. ✘ कृष्णा

Question Number : 57 Question Id : 5459276925 Question Type : MCQ Option Shuffling : Yes Display Question Number : Yes
Single Line Question Option : No Option Orientation : Vertical

Correct Marks : 1 Wrong Marks : 0.25

India's only active volcano is found on a Barren Island which is located in _____.

Options :

- ✓ Andaman and Nicobar Islands
- ✗ Lakshadweep Islands
- ✗ Malabar Coast
- ✗ Himalayas

Question Number : 57 Question Id : 5459276925 Question Type : MCQ Option Shuffling : Yes Display Question Number : Yes
Single Line Question Option : No Option Orientation : Vertical

Correct Marks : 1 Wrong Marks : 0.25

भारत का एकमात्र सक्रिय ज्वालामुखी बैरन द्वीप पर पाया जाता है जो _____ में स्थित है

Options :

- ✓ अंडमान और निकोबार द्वीपसमूह
- ✗ लक्षद्वीप द्वीपसमूह
- ✗ मालाबार तट
- ✗ हिमालय

Question Number : 58 Question Id : 5459276926 Question Type : MCQ Option Shuffling : Yes Display Question Number : Yes
Single Line Question Option : No Option Orientation : Vertical

Correct Marks : 1 Wrong Marks : 0.25

Which of the following does NOT affect soil formation?

Options :

- ✗ Parent Material
- ✗ Topography
- ✓ Landslides
- ✗ Climate

Question Number : 58 Question Id : 5459276926 Question Type : MCQ Option Shuffling : Yes Display Question Number : Yes
Single Line Question Option : No Option Orientation : Vertical

Correct Marks : 1 Wrong Marks : 0.25

निम्नलिखित में से क्या मृदा निर्माण को प्रभावित नहीं करता है?

Options :

- ✗ जनक सामग्री
- ✗ स्थलाकृति
- ✓ भूस्खलन
- ✗ जलवायु

Question Number : 59 Question Id : 5459276927 Question Type : MCQ Option Shuffling : Yes Display Question Number : Yes
Single Line Question Option : No Option Orientation : Vertical

Correct Marks : 1 Wrong Marks : 0.25

Hindon is the tributary of which of the following river?

Options :

- ✓ Yamuna
- ✗ Ganga
- ✗ Krishna
- ✗ Kaveri

Question Number : 59 Question Id : 5459276927 Question Type : MCQ Option Shuffling : Yes Display Question Number : Yes
Single Line Question Option : No Option Orientation : Vertical

Correct Marks : 1 Wrong Marks : 0.25

हिंडन निम्नलिखित में से किस नदी की सहायक नदी है?

Options :

1. ✓ यमुना
2. ✗ गंगा
3. ✗ कृष्णा
4. ✗ कावेरी

Question Number : 60 Question Id : 5459276928 Question Type : MCQ Option Shuffling : Yes Display Question Number : Yes
Single Line Question Option : No Option Orientation : Vertical

Correct Marks : 1 Wrong Marks : 0.25

_____ is the study of soils.

Options :

1. ✗ Paleontology
2. ✗ Ecology
3. ✓ Pedology
4. ✗ Geology

Question Number : 60 Question Id : 5459276928 Question Type : MCQ Option Shuffling : Yes Display Question Number : Yes
Single Line Question Option : No Option Orientation : Vertical

Correct Marks : 1 Wrong Marks : 0.25

_____ मृदा का अध्ययन है।

Options :

1. ✗ जीवाश्मिकी
2. ✗ परिस्थिति विज्ञान
3. ✓ भूमि विज्ञान
4. ✗ भूविज्ञान

General Awareness2

| | |
|---|-----------|
| Group Number : | 4 |
| Group Id : | 545927344 |
| Group Maximum Duration : | 0 |
| Group Minimum Duration : | 0 |
| Revisit allowed for view? : | No |
| Revisit allowed for edit? : | No |
| Break time: | 0 |
| Group Marks: | 20 |
| Revisit allowed for group Instructions? : | Yes |
| Maximum Instruction Time: | 0 |
| Minimum Instruction Time: | 0 |

General Awareness2

| | |
|--------------------------------------|-----------|
| Section Id : | 545927344 |
| Section Number : | 1 |
| Section type : | Online |
| Mandatory or Optional: | Mandatory |
| Number of Questions: | 20 |
| Number of Questions to be attempted: | 20 |
| Section Marks: | 20 |

Display Number Panel: Yes
Group All Questions: No

Sub-Section Number: 1
Sub-Section Id: 545927412
Question Shuffling Allowed : Yes

Question Number : 61 Question Id : 5459276929 Question Type : MCQ Option Shuffling : Yes Display Question Number : Yes
Single Line Question Option : No Option Orientation : Vertical

Correct Marks : 1 Wrong Marks : 0.25

Which river is also known as 'Sorrow of Bihar'?

Options :

1. ✘ Chambal
2. ✘ Yamuna
3. ✘ Gomati
4. ✔ Kosi

Question Number : 61 Question Id : 5459276929 Question Type : MCQ Option Shuffling : Yes Display Question Number : Yes
Single Line Question Option : No Option Orientation : Vertical

Correct Marks : 1 Wrong Marks : 0.25

किस नदी को 'सॉरो ऑफ बिहार' भी कहा जाता है?

Options :

1. ✘ चंबल
2. ✘ यमुना
3. ✘ गोमती
4. ✔ कोसी

Question Number : 62 Question Id : 5459276930 Question Type : MCQ Option Shuffling : Yes Display Question Number : Yes
Single Line Question Option : No Option Orientation : Vertical

Correct Marks : 1 Wrong Marks : 0.25

_____ advocated remarriage of widows in 19th century.

Options :

1. ✔ Ishwar Chandra Vidyasagar
2. ✘ E.V. Ramaswamy Naicker
3. ✘ Swami Vivekananda
4. ✘ Jyotiba Phule

Question Number : 62 Question Id : 5459276930 Question Type : MCQ Option Shuffling : Yes Display Question Number : Yes
Single Line Question Option : No Option Orientation : Vertical

Correct Marks : 1 Wrong Marks : 0.25

_____ ने 19वीं सदी में विधवाओं के पुनर्विवाह की वकालत की।

Options :

1. ✔ ईश्वर चंद्र विद्यासागर
2. ✘ ई.वी. रामास्वामी नाइकर
3. ✘ स्वामी विवेकानंद
4. ✘ ज्योतिबा फुले

Question Number : 63 Question Id : 5459276931 Question Type : MCQ Option Shuffling : Yes Display Question Number : Yes
Single Line Question Option : No Option Orientation : Vertical

Correct Marks : 1 Wrong Marks : 0.25

_____ was the revenue administration and civil justice system in Bengal under the Mughals.

Options :

1. ✘ Nizamat
2. ✘ Amir
3. ✔ Diwani
4. ✘ Mansab

Question Number : 63 Question Id : 5459276931 Question Type : MCQ Option Shuffling : Yes Display Question Number : Yes
Single Line Question Option : No Option Orientation : Vertical

Correct Marks : 1 Wrong Marks : 0.25

_____ मुगलों के अधीन बंगाल में राजस्व प्रशासन और नागरिक न्याय प्रणाली थी।

Options :

1. ✘ निजामत
2. ✘ आमिर
3. ✔ दीवानी
4. ✘ मनसब

Question Number : 64 Question Id : 5459276932 Question Type : MCQ Option Shuffling : Yes Display Question Number : Yes
Single Line Question Option : No Option Orientation : Vertical

Correct Marks : 1 Wrong Marks : 0.25

_____ was the eldest son of Babur.

Options :

1. ✔ Humayun
2. ✘ Akbar
3. ✘ Shah Jahan
4. ✘ Changez Khan

Question Number : 64 Question Id : 5459276932 Question Type : MCQ Option Shuffling : Yes Display Question Number : Yes
Single Line Question Option : No Option Orientation : Vertical

Correct Marks : 1 Wrong Marks : 0.25

बाबर का सबसे बड़ा पुत्र _____ था।

Options :

1. ✔ हुमायूँ
2. ✘ अकबर
3. ✘ शाहजहाँ
4. ✘ चंगेज़ खान

Question Number : 65 Question Id : 5459276933 Question Type : MCQ Option Shuffling : Yes Display Question Number : Yes
Single Line Question Option : No Option Orientation : Vertical

Correct Marks : 1 Wrong Marks : 0.25

_____ was called 'Indraprastha' during the rule of Pandavas.

Options :

1. ✘ Calcutta
2. ✘ Agra
3. ✘ Jaipur
4. ✔ Delhi

Question Number : 65 Question Id : 5459276933 Question Type : MCQ Option Shuffling : Yes Display Question Number : Yes
Single Line Question Option : No Option Orientation : Vertical

Correct Marks : 1 Wrong Marks : 0.25

पांडवों के शासन के दौरान _____ को 'इंद्रप्रस्थ' कहा जाता था।

Options :

- ✘ कलकत्ता
- ✘ आगरा
- ✘ जयपुर
- ✓ दिल्ली

Question Number : 66 Question Id : 5459276934 Question Type : MCQ Option Shuffling : Yes Display Question Number : Yes
Single Line Question Option : No Option Orientation : Vertical

Correct Marks : 1 Wrong Marks : 0.25

'पावर्टी एंड दी अन-ब्रिटिश रूल इन इंडिया' पुस्तक किसने लिखी है?

Options :

- ✘ बाल गंगाधर तिलक
- ✘ गोपाल कृष्ण गोखले
- ✘ एम.जी. रानडे
- ✓ दादाभाई नौरोजी

Question Number : 66 Question Id : 5459276934 Question Type : MCQ Option Shuffling : Yes Display Question Number : Yes
Single Line Question Option : No Option Orientation : Vertical

Correct Marks : 1 Wrong Marks : 0.25

Who wrote the book 'Poverty and the Un-British Rule in India'?

Options :

- ✘ Bal Gangadhar Tilak
- ✘ Gopal Krishna Gokhale
- ✘ M.G. Ranade
- ✓ Dadabhai Naoroji

Question Number : 67 Question Id : 5459276935 Question Type : MCQ Option Shuffling : Yes Display Question Number : Yes
Single Line Question Option : No Option Orientation : Vertical

Correct Marks : 1 Wrong Marks : 0.25

Which of the following was a Pallava ruler?

Options :

- ✘ Rajaraja I
- ✘ Rajashekhara Verma
- ✓ Mahendravarman
- ✘ Kumaragupta

Question Number : 67 Question Id : 5459276935 Question Type : MCQ Option Shuffling : Yes Display Question Number : Yes
Single Line Question Option : No Option Orientation : Vertical

Correct Marks : 1 Wrong Marks : 0.25

निम्नलिखित में से कौन एक पल्लव शासक था?

Options :

- ✘ राजराजा I
- ✘ राजशेखर वर्मा
- ✓ महेंद्रवर्मन

4. ✘ कुमारगुप्त

Question Number : 68 Question Id : 5459276936 Question Type : MCQ Option Shuffling : Yes Display Question Number : Yes
Single Line Question Option : No Option Orientation : Vertical

Correct Marks : 1 Wrong Marks : 0.25

Which is the third-highest civilian honor in India?

Options :

1. ✘ Padma Vibhushan

2. ✔ Padma Bhushan

3. ✘ Arjuna Award

4. ✘ Dadasaheb Phalke Award

Question Number : 68 Question Id : 5459276936 Question Type : MCQ Option Shuffling : Yes Display Question Number : Yes
Single Line Question Option : No Option Orientation : Vertical

Correct Marks : 1 Wrong Marks : 0.25

भारत में तीसरा सबसे उच्च नागरिक सम्मान कौन सा है?

Options :

1. ✘ पद्म विभूषण

2. ✔ पद्म भूषण

3. ✘ अर्जुन पुरस्कार

4. ✘ दादासाहेब फाल्के पुरस्कार

Question Number : 69 Question Id : 5459276937 Question Type : MCQ Option Shuffling : Yes Display Question Number : Yes
Single Line Question Option : No Option Orientation : Vertical

Correct Marks : 1 Wrong Marks : 0.25

Which male singer won the Filmfare Award 2019 for Best Playback Singer?

Options :

1. ✘ Sonu Nigam

2. ✔ Arijit Singh

3. ✘ Shankar Mahadevan

4. ✘ Abhay Jodhpurkar

Question Number : 69 Question Id : 5459276937 Question Type : MCQ Option Shuffling : Yes Display Question Number : Yes
Single Line Question Option : No Option Orientation : Vertical

Correct Marks : 1 Wrong Marks : 0.25

किस पुरुष गायक ने सर्वश्रेष्ठ पार्श्व गायक का 2019 फिल्मफेयर पुरस्कार जीता?

Options :

1. ✘ सोनू निगम

2. ✔ अरिजीत सिंह

3. ✘ शंकर महादेवन

4. ✘ अभय जोधपुरकर

Question Number : 70 Question Id : 5459276938 Question Type : MCQ Option Shuffling : Yes Display Question Number : Yes
Single Line Question Option : No Option Orientation : Vertical

Correct Marks : 1 Wrong Marks : 0.25

Which actor has been honored with the Padma Shri 2019 in the art-acting-film category?

Options :

1. ✔ Manoj Bajpayee

2. ✘ Nawazuddin Siddiqui

3. ✘ Rajkummar Rao
4. ✘ Shakti Kapoor

Question Number : 70 Question Id : 5459276938 Question Type : MCQ Option Shuffling : Yes Display Question Number : Yes
Single Line Question Option : No Option Orientation : Vertical

Correct Marks : 1 Wrong Marks : 0.25

कला-अभिनय-फिल्में श्रेणी में पद्म श्री 2019 से किस अभिनेता को सम्मानित किया गया है?

Options :

1. ✔ मनोज बाजपेयी
2. ✘ नवाजुद्दीन सिद्दीकी
3. ✘ राजकुमार राव
4. ✘ शक्ति कपूर

Question Number : 71 Question Id : 5459276939 Question Type : MCQ Option Shuffling : Yes Display Question Number : Yes
Single Line Question Option : No Option Orientation : Vertical

Correct Marks : 1 Wrong Marks : 0.25

Which novel has won the Man Booker International Prize 2019?

Options :

1. ✘ The Vegetarian
2. ✘ Heartland
3. ✘ Sea of Strangers
4. ✔ Celestial Bodies

Question Number : 71 Question Id : 5459276939 Question Type : MCQ Option Shuffling : Yes Display Question Number : Yes
Single Line Question Option : No Option Orientation : Vertical

Correct Marks : 1 Wrong Marks : 0.25

मैन बुकर इंटरनेशनल प्राइज़ 2019 किस उपन्यास ने जीता है?

Options :

1. ✘ द वेजीटेरियन
2. ✘ हार्टलैंड
3. ✘ सी ऑफ़ स्ट्रेंजर्स
4. ✔ सेलेस्टियल बॉडीज़

Question Number : 72 Question Id : 5459276940 Question Type : MCQ Option Shuffling : Yes Display Question Number : Yes
Single Line Question Option : No Option Orientation : Vertical

Correct Marks : 1 Wrong Marks : 0.25

Which country will launch the world's first man-made moon by 2020?

Options :

1. ✘ India
2. ✘ Japan
3. ✔ China
4. ✘ Afghanistan

Question Number : 72 Question Id : 5459276940 Question Type : MCQ Option Shuffling : Yes Display Question Number : Yes
Single Line Question Option : No Option Orientation : Vertical

Correct Marks : 1 Wrong Marks : 0.25

कौन सा देश 2020 तक दुनिया का पहला मानव निर्मित चंद्रमा लॉन्च करेगा?

Options :

1. ✘ भारत

2. ✘ जापान
3. ✔ चीन
4. ✘ अफगानिस्तान

Question Number : 73 Question Id : 5459276941 Question Type : MCQ Option Shuffling : Yes Display Question Number : Yes
Single Line Question Option : No Option Orientation : Vertical

Correct Marks : 1 Wrong Marks : 0.25

Chandrayaan-2 will be launched from which state by ISRO?

Options :

1. ✔ Andhra Pradesh
2. ✘ Maharashtra
3. ✘ Kerala.
4. ✘ Rajasthan

Question Number : 73 Question Id : 5459276941 Question Type : MCQ Option Shuffling : Yes Display Question Number : Yes
Single Line Question Option : No Option Orientation : Vertical

Correct Marks : 1 Wrong Marks : 0.25

इसरो द्वारा चंद्रयान -2 को किस राज्य से प्रक्षेपित किया जाएगा?

Options :

1. ✔ आंध्र प्रदेश
2. ✘ महाराष्ट्र
3. ✘ केरल
4. ✘ राजस्थान

Question Number : 74 Question Id : 5459276942 Question Type : MCQ Option Shuffling : Yes Display Question Number : Yes
Single Line Question Option : No Option Orientation : Vertical

Correct Marks : 1 Wrong Marks : 0.25

संविधान सभा में 'उद्देश्य संकल्प' किसने प्रस्तुत किया था?

Options :

1. ✘ भीमराव अम्बेडकर
2. ✘ महात्मा गांधी
3. ✔ जवाहरलाल नेहरू
4. ✘ राजेंद्र प्रसाद

Question Number : 74 Question Id : 5459276942 Question Type : MCQ Option Shuffling : Yes Display Question Number : Yes
Single Line Question Option : No Option Orientation : Vertical

Correct Marks : 1 Wrong Marks : 0.25

Who introduced 'Objective Resolution' in the Constituent Assembly?

Options :

1. ✘ B.R Ambedkar
2. ✘ Mahatma Gandhi
3. ✔ Jawaharlal Nehru
4. ✘ Rajendra Prasad

Question Number : 75 Question Id : 5459276943 Question Type : MCQ Option Shuffling : Yes Display Question Number : Yes
Single Line Question Option : No Option Orientation : Vertical

Correct Marks : 1 Wrong Marks : 0.25

Article 17 of the Indian Constitution deals with which of the following?

Options :

1. ✓ Abolition of Untouchability
2. ✗ Equality of opportunity in matters of public employment
3. ✗ Continuance of rights of citizenship
4. ✗ Protection of interests of minorities

Question Number : 75 Question Id : 5459276943 Question Type : MCQ Option Shuffling : Yes Display Question Number : Yes
Single Line Question Option : No Option Orientation : Vertical

Correct Marks : 1 Wrong Marks : 0.25

भारतीय संविधान का अनुच्छेद 17 निम्नलिखित में से किससे संबंधित है?

Options :

1. ✓ अस्पृश्यता का अंत
2. ✗ लोक नियोजन के विषय में अवसर की समानता
3. ✗ नागरिकता के अधिकारों का बना रहना
4. ✗ अल्पसंख्यक-वर्गों के हितों का संरक्षण

Question Number : 76 Question Id : 5459276944 Question Type : MCQ Option Shuffling : Yes Display Question Number : Yes
Single Line Question Option : No Option Orientation : Vertical

Correct Marks : 1 Wrong Marks : 0.25

Article 19 of the Indian Constitution includes which of the following right?

Options :

1. ✓ Right to freedom of speech and expression
2. ✗ Right against exploitation
3. ✗ Right to Constitutional Remedies
4. ✗ Right to freedom of Religion

Question Number : 76 Question Id : 5459276944 Question Type : MCQ Option Shuffling : Yes Display Question Number : Yes
Single Line Question Option : No Option Orientation : Vertical

Correct Marks : 1 Wrong Marks : 0.25

भारतीय संविधान के अनुच्छेद 19 में निम्नलिखित में से कौन सा अधिकार शामिल है?

Options :

1. ✓ वाक् एवं अभिव्यक्ति की स्वतंत्रता का अधिकार
2. ✗ शोषण के विरुद्ध अधिकार
3. ✗ संवैधानिक उपचारों का अधिकार
4. ✗ धर्म की स्वतंत्रता का अधिकार

Question Number : 77 Question Id : 5459276945 Question Type : MCQ Option Shuffling : Yes Display Question Number : Yes
Single Line Question Option : No Option Orientation : Vertical

Correct Marks : 1 Wrong Marks : 0.25

Uniform Civil Code is mentioned in which Part of the Indian Constitution?

Options :

1. ✗ Part III
2. ✓ Part IV
3. ✗ Part II
4. ✗ Part V

Question Number : 77 Question Id : 5459276945 Question Type : MCQ Option Shuffling : Yes Display Question Number : Yes
Single Line Question Option : No Option Orientation : Vertical

Correct Marks : 1 Wrong Marks : 0.25

समान सिविल संहिता का उल्लेख भारतीय संविधान के किस भाग में है?

Options :

1. ✘ भाग III
2. ✔ भाग IV
3. ✘ भाग II
4. ✘ भाग V

Question Number : 78 Question Id : 5459276946 Question Type : MCQ Option Shuffling : Yes Display Question Number : Yes
Single Line Question Option : No Option Orientation : Vertical

Correct Marks : 1 Wrong Marks : 0.25

2018 पुरुष हॉकी विश्व कप _____ में आयोजित किया गया था।

Options :

1. ✘ जापान
2. ✔ भारत
3. ✘ ऑस्ट्रेलिया
4. ✘ जर्मनी

Question Number : 78 Question Id : 5459276946 Question Type : MCQ Option Shuffling : Yes Display Question Number : Yes
Single Line Question Option : No Option Orientation : Vertical

Correct Marks : 1 Wrong Marks : 0.25

2018 Men's Hockey World Cup was held in _____.

Options :

1. ✘ Japan
2. ✔ India
3. ✘ Australia
4. ✘ Germany

Question Number : 79 Question Id : 5459276947 Question Type : MCQ Option Shuffling : Yes Display Question Number : Yes
Single Line Question Option : No Option Orientation : Vertical

Correct Marks : 1 Wrong Marks : 0.25

Hima Das is associated with which sport?

Options :

1. ✘ Chess
2. ✘ Boxing
3. ✘ Swimming
4. ✔ Athletics

Question Number : 79 Question Id : 5459276947 Question Type : MCQ Option Shuffling : Yes Display Question Number : Yes
Single Line Question Option : No Option Orientation : Vertical

Correct Marks : 1 Wrong Marks : 0.25

हिमा दास किस खेल से संबंधित है?

Options :

1. ✘ शतरंज
2. ✘ मुक्केबाजी
3. ✘ तैराकी
4. ✔ एथलेटिक्स

Question Number : 80 Question Id : 5459276948 Question Type : MCQ Option Shuffling : Yes Display Question Number : Yes
Single Line Question Option : No Option Orientation : Vertical

Correct Marks : 1 Wrong Marks : 0.25

In 2019, the International Olympic Committee (IOC) has formally opened its new headquarters in _____.

Options :

1. ✓ Switzerland
2. ✗ Belgium
3. ✗ France
4. ✗ Singapore

Question Number : 80 Question Id : 5459276948 Question Type : MCQ Option Shuffling : Yes Display Question Number : Yes
Single Line Question Option : No Option Orientation : Vertical

Correct Marks : 1 Wrong Marks : 0.25

2019 में, अंतर्राष्ट्रीय ओलंपिक समिति (आई.ओ.सी) ने _____ में औपचारिक रूप से अपना नया मुख्यालय खोला है।

Options :

1. ✓ स्विट्जरलैंड
2. ✗ बेल्जियम
3. ✗ फ्रांस
4. ✗ सिंगापुर

Arithmetic Ability1

| | |
|---|-----------|
| Group Number : | 5 |
| Group Id : | 545927345 |
| Group Maximum Duration : | 0 |
| Group Minimum Duration : | 0 |
| Revisit allowed for view? : | No |
| Revisit allowed for edit? : | No |
| Break time: | 0 |
| Group Marks: | 20 |
| Revisit allowed for group Instructions? : | Yes |
| Maximum Instruction Time: | 0 |
| Minimum Instruction Time: | 0 |

Arithmetic Ability1

| | |
|--------------------------------------|-----------|
| Section Id : | 545927345 |
| Section Number : | 1 |
| Section type : | Online |
| Mandatory or Optional: | Mandatory |
| Number of Questions: | 20 |
| Number of Questions to be attempted: | 20 |
| Section Marks: | 20 |
| Display Number Panel: | Yes |
| Group All Questions: | No |

| | |
|------------------------------|-----------|
| Sub-Section Number: | 1 |
| Sub-Section Id: | 545927413 |
| Question Shuffling Allowed : | Yes |

Question Number : 81 Question Id : 5459276949 Question Type : MCQ Option Shuffling : Yes Display Question Number : Yes
Single Line Question Option : No Option Orientation : Vertical

Correct Marks : 1 Wrong Marks : 0.25

If x and y are even numbers, then which of the following is correct?

Options :

- ✘ $x + y + 1$ is even
- ✔ $x + y$ is even
- ✘ $x + y + 3$ is even
- ✘ $x + y + 2$ is odd

Question Number : 81 Question Id : 5459276949 Question Type : MCQ Option Shuffling : Yes Display Question Number : Yes
Single Line Question Option : No Option Orientation : Vertical

Correct Marks : 1 Wrong Marks : 0.25

यदि x तथा y सम संख्याएँ हैं, तो निम्नलिखित में से कौन सा सही है?

Options :

- ✘ $x + y + 1$ सम है
- ✔ $x + y$ सम है
- ✘ $x + y + 3$ सम है
- ✘ $x + y + 2$ विषम है

Question Number : 82 Question Id : 5459276950 Question Type : MCQ Option Shuffling : Yes Display Question Number : Yes
Single Line Question Option : No Option Orientation : Vertical

Correct Marks : 1 Wrong Marks : 0.25

If $7248X$ is divisible by 16, then what is the value of X ?

Options :

- ✘ 2
- ✘ 4
- ✔ 0
- ✘ 8

Question Number : 82 Question Id : 5459276950 Question Type : MCQ Option Shuffling : Yes Display Question Number : Yes
Single Line Question Option : No Option Orientation : Vertical

Correct Marks : 1 Wrong Marks : 0.25

यदि $7248X$, 16 से विभाज्य है, तो X का मान क्या है?

Options :

- ✘ 2
- ✘ 4
- ✔ 0
- ✘ 8

Question Number : 83 Question Id : 5459276951 Question Type : MCQ Option Shuffling : Yes Display Question Number : Yes
Single Line Question Option : No Option Orientation : Vertical

Correct Marks : 1 Wrong Marks : 0.25

What is the value of $\frac{7}{2} \div \frac{21}{16} + \frac{4}{7} \times \frac{3}{4} \div \frac{9}{16} + \frac{4}{21} \times \frac{7}{2} + \frac{2}{3}$?

Options :

- ✔ 100/21
- ✘ 50/11
- ✘ 75/13
- ✘ 100/31

Question Number : 83 Question Id : 5459276951 Question Type : MCQ Option Shuffling : Yes Display Question Number : Yes
Single Line Question Option : No Option Orientation : Vertical

Correct Marks : 1 Wrong Marks : 0.25

$\frac{7}{2} \div \frac{21}{16} + \frac{4}{7} \times \frac{3}{4} \div \frac{9}{16} + \frac{4}{21} \times \frac{7}{2} + \frac{2}{3}$ का मान क्या है?

Options :

1. ✓ 100/21
2. ✗ 50/11
3. ✗ 75/13
4. ✗ 100/31

Question Number : 84 Question Id : 5459276952 Question Type : MCQ Option Shuffling : Yes Display Question Number : Yes
Single Line Question Option : No Option Orientation : Vertical

Correct Marks : 1 Wrong Marks : 0.25

If $A = \frac{3}{7} \times \frac{9}{28} \div \frac{81}{343}$ and $B = \frac{4}{5} \div \frac{16}{25} + \frac{3}{7} \times \frac{28}{27}$, then what is the value of B/A?

Options :

1. ✗ 1301/661
2. ✓ 1281/441
3. ✗ 1211/371
4. ✗ 1291/441

Question Number : 84 Question Id : 5459276952 Question Type : MCQ Option Shuffling : Yes Display Question Number : Yes
Single Line Question Option : No Option Orientation : Vertical

Correct Marks : 1 Wrong Marks : 0.25

यदि $A = \frac{3}{7} \times \frac{9}{28} \div \frac{81}{343}$ तथा $B = \frac{4}{5} \div \frac{16}{25} + \frac{3}{7} \times \frac{28}{27}$ है, तो B/A का मान क्या है?

Options :

1. ✗ 1301/661
2. ✓ 1281/441
3. ✗ 1211/371
4. ✗ 1291/441

Question Number : 85 Question Id : 5459276953 Question Type : MCQ Option Shuffling : Yes Display Question Number : Yes
Single Line Question Option : No Option Orientation : Vertical

Correct Marks : 1 Wrong Marks : 0.25

There are 3 types of rice. The amount of the rice are 703 kg, 851 kg and 333 kg respectively. The rice are packed such that no two types of rice are mixed. If the size of packet is largest and all packets have same size, then what is the number of packets?

Options :

1. ✗ 37
2. ✓ 51
3. ✗ 43
4. ✗ 39

Question Number : 85 Question Id : 5459276953 Question Type : MCQ Option Shuffling : Yes Display Question Number : Yes
Single Line Question Option : No Option Orientation : Vertical

Correct Marks : 1 Wrong Marks : 0.25

3 प्रकार के चावल हैं। चावलों की मात्रा क्रमशः 703 कि.ग्रा., 851 कि.ग्रा. तथा 333 कि.ग्रा. हैं। चावलों को इस तरह बांधा गया है कि किसी भी 2 प्रकार के चावल नहीं मिलाये गये हैं। यदि पैकेट का माप सबसे बड़ा है, तो पैकेटों की संख्या क्या है?

Options :

1. ✘ 37
2. ✔ 51
3. ✘ 43
4. ✘ 39

Question Number : 86 Question Id : 5459276954 Question Type : MCQ Option Shuffling : Yes Display Question Number : Yes
Single Line Question Option : No Option Orientation : Vertical

Correct Marks : 1 Wrong Marks : 0.25

K when divided by 5, 6 and 3 leaves remainder 1 in each case. What can be the value of K?

Options :

1. ✘ 571 and 1451
2. ✔ 1951 and 1561
3. ✘ 2521 and 2601
4. ✘ 1671 and 3151

Question Number : 86 Question Id : 5459276954 Question Type : MCQ Option Shuffling : Yes Display Question Number : Yes
Single Line Question Option : No Option Orientation : Vertical

Correct Marks : 1 Wrong Marks : 0.25

5, 6 तथा 3 से विभाजित करने पर प्रत्येक स्थिति में K शेषफल 1 देता है। K का मान क्या हो सकता है?

Options :

1. ✘ 571 तथा 1451
2. ✔ 1951 तथा 1561
3. ✘ 2521 तथा 2601
4. ✘ 1671 तथा 3151

Question Number : 87 Question Id : 5459276955 Question Type : MCQ Option Shuffling : Yes Display Question Number : Yes
Single Line Question Option : No Option Orientation : Vertical

Correct Marks : 1 Wrong Marks : 0.25

What is the value of $(4 + 18 \times 9 \div 6 - 12) / (18 \times 15 \div 6 + 23 - 11)$?

Options :

1. ✘ 26/77
2. ✘ 1/5
3. ✔ 1/3
4. ✘ 23/66

Question Number : 87 Question Id : 5459276955 Question Type : MCQ Option Shuffling : Yes Display Question Number : Yes
Single Line Question Option : No Option Orientation : Vertical

Correct Marks : 1 Wrong Marks : 0.25

$(4 + 18 \times 9 \div 6 - 12) / (18 \times 15 \div 6 + 23 - 11)$ का मान क्या है?

Options :

1. ✘ 26/77
2. ✘ 1/5
3. ✔ 1/3

4. ✖ 23/66

Question Number : 88 Question Id : 5459276956 Question Type : MCQ Option Shuffling : Yes Display Question Number : Yes
Single Line Question Option : No Option Orientation : Vertical

Correct Marks : 1 Wrong Marks : 0.25

416X92Y is divisible by 88. What can be the value of $(X + Y) / (Y - X)$?

Options :

1. ✖ 4/3

2. ✖ 7/6

3. ✖ 10/3

4. ✔ 5/3

Question Number : 88 Question Id : 5459276956 Question Type : MCQ Option Shuffling : Yes Display Question Number : Yes
Single Line Question Option : No Option Orientation : Vertical

Correct Marks : 1 Wrong Marks : 0.25

416X92Y, 88 से विभाजित हो पाता है $(X + Y) / (Y - X)$ का मान क्या हो सकता है?

Options :

1. ✖ 4/3

2. ✖ 7/6

3. ✖ 10/3

4. ✔ 5/3

Question Number : 89 Question Id : 5459276957 Question Type : MCQ Option Shuffling : Yes Display Question Number : Yes
Single Line Question Option : No Option Orientation : Vertical

Correct Marks : 1 Wrong Marks : 0.25

What is the value of $(0.5)^2 \div (0.125) + (0.12)^2 \div (0.02) + (0.18)^2 \div (0.04) + (0.22)^2 \div (0.02)^2 + (0.9)^3 \div (0.03)^2$?

Options :

1. ✖ 918.47

2. ✔ 934.53

3. ✖ 1011.42

4. ✖ 861.21

Question Number : 89 Question Id : 5459276957 Question Type : MCQ Option Shuffling : Yes Display Question Number : Yes
Single Line Question Option : No Option Orientation : Vertical

Correct Marks : 1 Wrong Marks : 0.25

$(0.5)^2 \div (0.125) + (0.12)^2 \div (0.02) + (0.18)^2 \div (0.04) + (0.22)^2 \div (0.02)^2 + (0.9)^3 \div (0.03)^2$ का मान क्या है?

Options :

1. ✖ 918.47

2. ✔ 934.53

3. ✖ 1011.42

4. ✖ 861.21

Question Number : 90 Question Id : 5459276958 Question Type : MCQ Option Shuffling : Yes Display Question Number : Yes
Single Line Question Option : No Option Orientation : Vertical

Correct Marks : 1 Wrong Marks : 0.25

What is the value of $9 + 9 \div 18 \times 27 + 36 \div 9 \times 18 + 54 \div 9 \times 18$?

Options :

1. ✘ 401/2
2. ✘ 397/2
3. ✔ 405/2
4. ✘ 417/2

Question Number : 90 Question Id : 5459276958 Question Type : MCQ Option Shuffling : Yes Display Question Number : Yes
Single Line Question Option : No Option Orientation : Vertical

Correct Marks : 1 Wrong Marks : 0.25

$9 + 9 \div 18 \times 27 + 36 \div 9 \times 18 + 54 \div 9 \times 18$ का मान क्या है?

Options :

1. ✘ 401/2
2. ✘ 397/2
3. ✔ 405/2
4. ✘ 417/2

Question Number : 91 Question Id : 5459276959 Question Type : MCQ Option Shuffling : Yes Display Question Number : Yes
Single Line Question Option : No Option Orientation : Vertical

Correct Marks : 1 Wrong Marks : 0.25

The marked price of a table is Rs 3500 and its selling price is Rs 2275. What is the percentage discount?

Options :

1. ✘ 65 percent
2. ✔ 35 percent
3. ✘ 55 percent
4. ✘ 45 percent

Question Number : 91 Question Id : 5459276959 Question Type : MCQ Option Shuffling : Yes Display Question Number : Yes
Single Line Question Option : No Option Orientation : Vertical

Correct Marks : 1 Wrong Marks : 0.25

एक वस्तु का अंकित मूल्य 3500 रुपये है तथा उसका विक्रय मूल्य 2275 रुपये है। छूट प्रतिशत क्या है?

Options :

1. ✘ 65 प्रतिशत
2. ✔ 35 प्रतिशत
3. ✘ 55 प्रतिशत
4. ✘ 45 प्रतिशत

Question Number : 92 Question Id : 5459276960 Question Type : MCQ Option Shuffling : Yes Display Question Number : Yes
Single Line Question Option : No Option Orientation : Vertical

Correct Marks : 1 Wrong Marks : 0.25

The average age of 20 girls is 25 years. The average age of another 30 girls is K years. If the average age of all 50 girls is 34 years, then what is the value of K?

Options :

1. ✘ 30
2. ✘ 35
3. ✔ 40
4. ✘ 25

Question Number : 92 Question Id : 5459276960 Question Type : MCQ Option Shuffling : Yes Display Question Number : Yes
Single Line Question Option : No Option Orientation : Vertical

Correct Marks : 1 Wrong Marks : 0.25

20 लड़कियों की औसत आयु 25 वर्ष है अन्य 30 लड़कियों की औसत आयु K वर्ष है यदि सभी 50 लड़कियों की औसत आयु 34 वर्ष है, तो K का मान क्या है?

Options :

- ✘ 30
- ✘ 35
- ✔ 40
- ✘ 25

Question Number : 93 Question Id : 5459276961 Question Type : MCQ Option Shuffling : Yes Display Question Number : Yes Single Line Question Option : No Option Orientation : Vertical

Correct Marks : 1 Wrong Marks : 0.25

A trader incurs a loss of 50 percent after allowing a discount of 40 percent. If 20 percent discount is given, then what will be the profit/loss percentage?

Options :

- ✘ 33.33 percent, profit
- ✔ 33.33 percent, loss
- ✘ 25 percent, profit
- ✘ 25 percent, loss

Question Number : 93 Question Id : 5459276961 Question Type : MCQ Option Shuffling : Yes Display Question Number : Yes Single Line Question Option : No Option Orientation : Vertical

Correct Marks : 1 Wrong Marks : 0.25

40 प्रतिशत की छूट देने के पश्चात एक विक्रेता को 50 प्रतिशत की हानि होती है यदि 20 प्रतिशत की छूट दी जाती है, तो लाभ/हानि प्रतिशत क्या होगा?

Options :

- ✘ 33.33 प्रतिशत, लाभ
- ✔ 33.33 प्रतिशत, हानि
- ✘ 25 प्रतिशत, लाभ
- ✘ 25 प्रतिशत, हानि

Question Number : 94 Question Id : 5459276962 Question Type : MCQ Option Shuffling : Yes Display Question Number : Yes Single Line Question Option : No Option Orientation : Vertical

Correct Marks : 1 Wrong Marks : 0.25

P is 4 times of Q. Q is how much percent less than P?

Options :

- ✔ 75 percent
- ✘ 25 percent
- ✘ 60 percent
- ✘ 80 percent

Question Number : 94 Question Id : 5459276962 Question Type : MCQ Option Shuffling : Yes Display Question Number : Yes Single Line Question Option : No Option Orientation : Vertical

Correct Marks : 1 Wrong Marks : 0.25

P, Q का 4 गुना है Q, P से कितना प्रतिशत कम है?

Options :

- ✔ 75 प्रतिशत
- ✘ 25 प्रतिशत
- ✘ 60 प्रतिशत
- ✘ 80 प्रतिशत

Question Number : 95 Question Id : 5459276963 Question Type : MCQ Option Shuffling : Yes Display Question Number : Yes
Single Line Question Option : No Option Orientation : Vertical

Correct Marks : 1 Wrong Marks : 0.25

The population of a town increases by 60 percent every year. If after 2 years from present the population is 87040, then what is the present population?

Options :

1. ✘ 38000
2. ✘ 36000
3. ✘ 32000
4. ✔ 34000

Question Number : 95 Question Id : 5459276963 Question Type : MCQ Option Shuffling : Yes Display Question Number : Yes
Single Line Question Option : No Option Orientation : Vertical

Correct Marks : 1 Wrong Marks : 0.25

एक शहर की जनसंख्या प्रत्येक वर्ष 60 प्रतिशत से बढ़ जाती है। यदि वर्तमान से 2 वर्ष पश्चात जनसंख्या 87040 होती है, तो वर्तमान जनसंख्या क्या है?

Options :

1. ✘ 38000
2. ✘ 36000
3. ✘ 32000
4. ✔ 34000

Question Number : 96 Question Id : 5459276964 Question Type : MCQ Option Shuffling : Yes Display Question Number : Yes
Single Line Question Option : No Option Orientation : Vertical

Correct Marks : 1 Wrong Marks : 0.25

L is 20 percent less than T but T is 30 percent more than R. J is 30 percent of W and W is 10 percent of T. J is what percentage of R?

Options :

1. ✘ 4.3 percent
2. ✔ 3.9 percent
3. ✘ 6.1 percent
4. ✘ 8.4 percent

Question Number : 96 Question Id : 5459276964 Question Type : MCQ Option Shuffling : Yes Display Question Number : Yes
Single Line Question Option : No Option Orientation : Vertical

Correct Marks : 1 Wrong Marks : 0.25

L, T से 20 प्रतिशत कम है परंतु T, R से 30 प्रतिशत अधिक है। J, W का 30 प्रतिशत है तथा W, T का 10 प्रतिशत है। J, R का क्या प्रतिशत है?

Options :

1. ✘ 4.3 प्रतिशत
2. ✔ 3.9 प्रतिशत
3. ✘ 6.1 प्रतिशत
4. ✘ 8.4 प्रतिशत

Question Number : 97 Question Id : 5459276965 Question Type : MCQ Option Shuffling : Yes Display Question Number : Yes
Single Line Question Option : No Option Orientation : Vertical

Correct Marks : 1 Wrong Marks : 0.25

The selling price of a product is 75 percent of the cost price. What is the loss percentage?

Options :

1. ✘ 33.33 percent

2. ✓ 25 percent
3. ✗ 16.67 percent
4. ✗ 20 percent

Question Number : 97 Question Id : 5459276965 Question Type : MCQ Option Shuffling : Yes Display Question Number : Yes
Single Line Question Option : No Option Orientation : Vertical

Correct Marks : 1 Wrong Marks : 0.25

एक उत्पाद का विक्रय मूल्य उसके क्रय मूल्य का 75 प्रतिशत है हानि प्रतिशत क्या है?

Options :

1. ✗ 33.33 प्रतिशत
2. ✓ 25 प्रतिशत
3. ✗ 16.67 प्रतिशत
4. ✗ 20 प्रतिशत

Question Number : 98 Question Id : 5459276966 Question Type : MCQ Option Shuffling : Yes Display Question Number : Yes
Single Line Question Option : No Option Orientation : Vertical

Correct Marks : 1 Wrong Marks : 0.25

By selling an article for Rs 156 more, Rajat earned a profit of 4 percent instead of a loss of 8 percent. What is the cost price of the article?

Options :

1. ✗ Rs 1400
2. ✗ Rs 1352
3. ✓ Rs 1300
4. ✗ Rs 1196

Question Number : 98 Question Id : 5459276966 Question Type : MCQ Option Shuffling : Yes Display Question Number : Yes
Single Line Question Option : No Option Orientation : Vertical

Correct Marks : 1 Wrong Marks : 0.25

एक वस्तु को 156 रुपये अधिक में बेचने पर, रजत ने 8 प्रतिशत की हानि के बजाय 4 प्रतिशत का लाभ कमाया है। वस्तु का क्रय मूल्य क्या है?

Options :

1. ✗ 1400 रुपये
2. ✗ 1352 रुपये
3. ✓ 1300 रुपये
4. ✗ 1196 रुपये

Question Number : 99 Question Id : 5459276967 Question Type : MCQ Option Shuffling : Yes Display Question Number : Yes
Single Line Question Option : No Option Orientation : Vertical

Correct Marks : 1 Wrong Marks : 0.25

J sells an article to K at a loss of 30 percent, K sells the same article to L at a profit of 40 percent. If L pays Rs 490, then what is the selling price of the article for J?

Options :

1. ✗ Rs 500
2. ✓ Rs 350
3. ✗ Rs 375
4. ✗ Rs 425

Question Number : 99 Question Id : 5459276967 Question Type : MCQ Option Shuffling : Yes Display Question Number : Yes
Single Line Question Option : No Option Orientation : Vertical

Correct Marks : 1 Wrong Marks : 0.25

J, K को एक वस्तु 30 प्रतिशत की हानि पर बेचता है, K उसी वस्तु को 40 प्रतिशत के लाभ पर L को बेचता है। यदि L, 490 रुपये का भुगतान करता है, तो J के लिए उस वस्तु का विक्रय मूल्य क्या है?

Options :

1. ✘ 500 रुपये
2. ✔ 350 रुपये
3. ✘ 375 रुपये
4. ✘ 425 रुपये

Question Number : 100 Question Id : 5459276968 Question Type : MCQ Option Shuffling : Yes Display Question Number : Yes
Single Line Question Option : No Option Orientation : Vertical

Correct Marks : 1 Wrong Marks : 0.25

If $P/Q = 8/9$ and $Q - P = 12$, then what is the value of P?

Options :

1. ✘ 108
2. ✘ 112
3. ✘ 84
4. ✔ 96

Question Number : 100 Question Id : 5459276968 Question Type : MCQ Option Shuffling : Yes Display Question Number : Yes
Single Line Question Option : No Option Orientation : Vertical

Correct Marks : 1 Wrong Marks : 0.25

यदि $P/Q = 8/9$ तथा $Q - P = 12$ है, तो P का मान क्या है?

Options :

1. ✘ 108
2. ✘ 112
3. ✘ 84
4. ✔ 96

Arithmetic Ability2

| | |
|---|-----------|
| Group Number : | 6 |
| Group Id : | 545927346 |
| Group Maximum Duration : | 0 |
| Group Minimum Duration : | 0 |
| Revisit allowed for view? : | No |
| Revisit allowed for edit? : | No |
| Break time: | 0 |
| Group Marks: | 20 |
| Revisit allowed for group Instructions? : | Yes |
| Maximum Instruction Time: | 0 |
| Minimum Instruction Time: | 0 |

Arithmetic Ability2

| | |
|------------------------|-----------|
| Section Id : | 545927346 |
| Section Number : | 1 |
| Section type : | Online |
| Mandatory or Optional: | Mandatory |
| Number of Questions: | 20 |

| | |
|--------------------------------------|-----|
| Number of Questions to be attempted: | 20 |
| Section Marks: | 20 |
| Display Number Panel: | Yes |
| Group All Questions: | No |

| | |
|------------------------------|-----------|
| Sub-Section Number: | 1 |
| Sub-Section Id: | 545927414 |
| Question Shuffling Allowed : | Yes |

Question Number : 101 Question Id : 545927699 Question Type : MCQ Option Shuffling : Yes Display Question Number : Yes
Single Line Question Option : No Option Orientation : Vertical

Correct Marks : 1 Wrong Marks : 0.25

If $P : Q = 3 : 4$ and $Q : R = 5 : 3$, then what is the value of $4P : Q : 5R$?

Options :

- ✘ 3 : 3 : 5
- ✘ 4 : 1 : 5
- ✔ 3 : 1 : 3
- ✘ 2 : 1 : 2

Question Number : 101 Question Id : 545927699 Question Type : MCQ Option Shuffling : Yes Display Question Number : Yes
Single Line Question Option : No Option Orientation : Vertical

Correct Marks : 1 Wrong Marks : 0.25

यदि $P : Q = 3 : 4$ तथा $Q : R = 5 : 3$ है, तो $4P : Q : 5R$ का मान क्या है?

Options :

- ✘ 3 : 3 : 5
- ✘ 4 : 1 : 5
- ✔ 3 : 1 : 3
- ✘ 2 : 1 : 2

Question Number : 102 Question Id : 5459276970 Question Type : MCQ Option Shuffling : Yes Display Question Number : Yes
Single Line Question Option : No Option Orientation : Vertical

Correct Marks : 1 Wrong Marks : 0.25

The ratio of three numbers is $2 : 3 : 4$. The sum of these numbers is 108. What is the largest number?

Options :

- ✘ 46
- ✔ 48
- ✘ 56
- ✘ 42

Question Number : 102 Question Id : 5459276970 Question Type : MCQ Option Shuffling : Yes Display Question Number : Yes
Single Line Question Option : No Option Orientation : Vertical

Correct Marks : 1 Wrong Marks : 0.25

तीन संख्याओं का अनुपात $2 : 3 : 4$ है। इन संख्याओं का योग 108 है। सबसे बड़ी संख्या क्या है?

Options :

- ✘ 46
- ✔ 48
- ✘ 56
- ✘ 42

Question Number : 103 Question Id : 5459276971 Question Type : MCQ Option Shuffling : Yes Display Question Number : Yes
Single Line Question Option : No Option Orientation : Vertical

Correct Marks : 1 Wrong Marks : 0.25

Rs 7000 becomes Rs 10360 in 6 years at simple interest. What is the per annum rate of interest?

Options :

- ✘ 10 percent
- ✔ 8 percent
- ✘ 11 percent
- ✘ 9 percent

Question Number : 103 Question Id : 5459276971 Question Type : MCQ Option Shuffling : Yes Display Question Number : Yes
Single Line Question Option : No Option Orientation : Vertical

Correct Marks : 1 Wrong Marks : 0.25

साधारण ब्याज पर 7000 रुपये 6 वर्षों में 10360 रुपये हो जाते हैं प्रति वर्ष ब्याज की दर क्या है?

Options :

- ✘ 10 प्रतिशत
- ✔ 8 प्रतिशत
- ✘ 11 प्रतिशत
- ✘ 9 प्रतिशत

Question Number : 104 Question Id : 5459276972 Question Type : MCQ Option Shuffling : Yes Display Question Number : Yes
Single Line Question Option : No Option Orientation : Vertical

Correct Marks : 1 Wrong Marks : 0.25

A sum of money becomes Rs 32490 in 2 years when kept at compound interest (compounding annually). If rate of interest is 14 percent per annum, then what is the sum of money?

Options :

- ✘ Rs 24000
- ✘ Rs 27000
- ✘ Rs 28000
- ✔ Rs 25000

Question Number : 104 Question Id : 5459276972 Question Type : MCQ Option Shuffling : Yes Display Question Number : Yes
Single Line Question Option : No Option Orientation : Vertical

Correct Marks : 1 Wrong Marks : 0.25

एक धनराशि चक्रवृद्धि ब्याज (वार्षिक संयोजन) पर रखे जाने पर 2 वर्षों में 32490 रुपये हो जाती है। यदि ब्याज की दर 14 प्रतिशत प्रति वर्ष है, तो धनराशि क्या है?

Options :

- ✘ 24000 रुपये
- ✘ 27000 रुपये
- ✘ 28000 रुपये
- ✔ 25000 रुपये

Question Number : 105 Question Id : 5459276973 Question Type : MCQ Option Shuffling : Yes Display Question Number : Yes
Single Line Question Option : No Option Orientation : Vertical

Correct Marks : 1 Wrong Marks : 0.25

Compound interest on a certain sum of money for 2 years at a rate of 'r' percent per annum (compounding annually) is Rs. 8385. Simple interest on the same sum at the same rate for 2 years is Rs 7800. What is the value of r?

Options :

- ✘ 12 percent
- ✘ 16 percent
- ✔ 15 percent
- ✘ 18 percent

Question Number : 105 Question Id : 5459276973 Question Type : MCQ Option Shuffling : Yes Display Question Number : Yes Single Line Question Option : No Option Orientation : Vertical

Correct Marks : 1 Wrong Marks : 0.25

एक निश्चित धनराशि पर 'r' प्रतिशत प्रति वर्ष की दर से (वार्षिक संयोजन पर) 2 वर्ष का चक्रवृद्धि ब्याज 8385 रुपये है। उसी धनराशि पर उसी दर से 2 वर्ष का साधारण ब्याज 7800 रुपये है। r का मान क्या है?

Options :

- ✘ 12 प्रतिशत
- ✘ 16 प्रतिशत
- ✔ 15 प्रतिशत
- ✘ 18 प्रतिशत

Question Number : 106 Question Id : 5459276974 Question Type : MCQ Option Shuffling : Yes Display Question Number : Yes Single Line Question Option : No Option Orientation : Vertical

Correct Marks : 1 Wrong Marks : 0.25

Speed of a boat in upstream is 30 km/hr. If the speed of stream is 5 km/hr, then how much distance will it cover in 2 hours in downstream?

Options :

- ✘ 70 km
- ✘ 60 km
- ✘ 82 km
- ✔ 80 km

Question Number : 106 Question Id : 5459276974 Question Type : MCQ Option Shuffling : Yes Display Question Number : Yes Single Line Question Option : No Option Orientation : Vertical

Correct Marks : 1 Wrong Marks : 0.25

एक नाव की गति धारा के प्रतिकूल 30 कि.मी/घंटा है। यदि धारा की गति 5 कि.मी/घंटा है, तो वह धारा के अनुकूल 2 घंटे में कितनी दूरी तय कर लेगी?

Options :

- ✘ 70 कि.मी
- ✘ 60 कि.मी
- ✘ 82 कि.मी
- ✔ 80 कि.मी

Question Number : 107 Question Id : 5459276975 Question Type : MCQ Option Shuffling : Yes Display Question Number : Yes Single Line Question Option : No Option Orientation : Vertical

Correct Marks : 1 Wrong Marks : 0.25

A train of length 600 meters passes another train of length 1000 meters in 96 seconds. If the speed of both the trains is same, then what is the speed of each train?

Options :

- ✘ 18 km/hr
- ✘ 21 km/hr
- ✘ 24 km/hr
- ✔ 30 km/hr

Question Number : 107 Question Id : 5459276975 Question Type : MCQ Option Shuffling : Yes Display Question Number : Yes
Single Line Question Option : No Option Orientation : Vertical

Correct Marks : 1 Wrong Marks : 0.25

एक 600 मीटर लम्बी रेलगाड़ी एक अन्य 1000 मीटर रेलगाड़ी को 96 सेकण्ड में पार करती है। यदि दोनों रेलगाड़ियों की गति समान है, तो प्रत्येक रेलगाड़ी की गति क्या है?

Options :

1. ✘ 18 कि.मी/घंटा
2. ✘ 21 कि.मी/घंटा
3. ✘ 24 कि.मी/घंटा
4. ✔ 30 कि.मी/घंटा

Question Number : 108 Question Id : 5459276976 Question Type : MCQ Option Shuffling : Yes Display Question Number : Yes
Single Line Question Option : No Option Orientation : Vertical

Correct Marks : 1 Wrong Marks : 0.25

A boat covers 20 km upstream and 60 km downstream in 5 hours. Boat covers 30 km upstream and 80 km downstream in 7 hours. What is the speed of boat in still water?

Options :

1. ✘ 14 km/hr
2. ✘ 12 km/hr
3. ✔ 15 km/hr
4. ✘ 20 km/hr

Question Number : 108 Question Id : 5459276976 Question Type : MCQ Option Shuffling : Yes Display Question Number : Yes
Single Line Question Option : No Option Orientation : Vertical

Correct Marks : 1 Wrong Marks : 0.25

एक नाव 20 कि.मी धारा के प्रतिकूल तथा 60 कि.मी धारा के अनुकूल 5 घंटे में तय करती है। नाव 30 कि.मी धारा के प्रतिकूल तथा 80 कि.मी धारा के अनुकूल 7 घंटे में तय करती है। स्थिर जल में नाव की गति क्या है?

Options :

1. ✘ 14 कि.मी/घंटा
2. ✘ 12 कि.मी/घंटा
3. ✔ 15 कि.मी/घंटा
4. ✘ 20 कि.मी/घंटा

Question Number : 109 Question Id : 5459276977 Question Type : MCQ Option Shuffling : Yes Display Question Number : Yes
Single Line Question Option : No Option Orientation : Vertical

Correct Marks : 1 Wrong Marks : 0.25

Two taps T1 and T2 can fill a tank in 2 hours and 3 hours respectively. If an outlet tap T3 is opened, then all three can together fill the tank in 6 hours. How much time will tap T3 take to empty the completely filled tank?

Options :

1. ✘ 3 hours
2. ✔ 3/2 hours
3. ✘ 4 hours
4. ✘ 2 hours

Question Number : 109 Question Id : 5459276977 Question Type : MCQ Option Shuffling : Yes Display Question Number : Yes
Single Line Question Option : No Option Orientation : Vertical

Correct Marks : 1 Wrong Marks : 0.25

दो नल T1 तथा T2 एक टंकी को क्रमशः 2 घंटे तथा 3 घंटे में भर सकते हैं। यदि एक निकास नल T3 को खोला जाये, तो तीनों एक साथ मिलकर टंकी को 6 घंटे में भर सकते हैं। नल T3 अकेला उस पूरी भरी हुई टंकी को खाली करने में कितना समय लेगा?

Options :

1. ✖ 3 घंटे
2. ✔ 3/2 घंटे
3. ✖ 4 घंटे
4. ✖ 2 घंटे

Question Number : 110 Question Id : 5459276978 Question Type : MCQ Option Shuffling : Yes Display Question Number : Yes Single Line Question Option : No Option Orientation : Vertical

Correct Marks : 1 Wrong Marks : 0.25

Vijay alone can do $\frac{3}{4}$ of a job in 12 days. Ajay is twice as efficient as Vijay. How many days will Ajay take to finish the same job alone?

Options :

1. ✖ 16 days
2. ✖ 12 days
3. ✔ 8 days
4. ✖ 6 days

Question Number : 110 Question Id : 5459276978 Question Type : MCQ Option Shuffling : Yes Display Question Number : Yes Single Line Question Option : No Option Orientation : Vertical

Correct Marks : 1 Wrong Marks : 0.25

विजय अकेला एक कार्य के $\frac{3}{4}$ को 12 दिन में कर सकता है। अजय, विजय से दोगुना कार्यकुशल है। समान कार्य को पूरा करने में अजय अकेला कितने दिन लेगा?

Options :

1. ✖ 16 दिन
2. ✖ 12 दिन
3. ✔ 8 दिन
4. ✖ 6 दिन

Question Number : 111 Question Id : 5459276979 Question Type : MCQ Option Shuffling : Yes Display Question Number : Yes Single Line Question Option : No Option Orientation : Vertical

Correct Marks : 1 Wrong Marks : 0.25

Raju and Shyam can complete a work in 20 days and 30 days respectively. They began the work, but Raju left the work after some days and Shyam completed the remaining work in 10 days. After How many days from the beginning Raju left the work?

Options :

1. ✖ 10 days
2. ✖ 7 days
3. ✖ 9 days
4. ✔ 8 days

Question Number : 111 Question Id : 5459276979 Question Type : MCQ Option Shuffling : Yes Display Question Number : Yes Single Line Question Option : No Option Orientation : Vertical

Correct Marks : 1 Wrong Marks : 0.25

राजू तथा श्याम एक कार्य को क्रमशः 20 दिन तथा 30 दिन में कर सकते हैं। उन्होंने कार्य आरंभ किया परंतु कुछ दिनों के पश्चात राजू ने कार्य छोड़ दिया तथा शेष कार्य श्याम ने 10 दिन में पूरा किया। प्रारंभ से कितने दिनों के पश्चात राजू ने कार्य छोड़ा?

Options :

1. ✖ 10 दिन
2. ✖ 7 दिन
3. ✖ 9 दिन
4. ✔ 8 दिन

Question Number : 112 Question Id : 5459276980 Question Type : MCQ Option Shuffling : Yes Display Question Number : Yes
Single Line Question Option : No Option Orientation : Vertical

Correct Marks : 1 Wrong Marks : 0.25

The length and breadth of a room is 16 metres and 12 metres respectively. If the total area of the four walls of the room is 784 metres^2 , then what is the height of the room?

Options :

1. ✘ 16 metre
2. ✔ 14 metre
3. ✘ 12 metre
4. ✘ 13 metre

Question Number : 112 Question Id : 5459276980 Question Type : MCQ Option Shuffling : Yes Display Question Number : Yes
Single Line Question Option : No Option Orientation : Vertical

Correct Marks : 1 Wrong Marks : 0.25

एक कमरे की लंबाई तथा चौड़ाई क्रमशः 16 मीटर तथा 12 मीटर है। यदि कमरे की चार दिवारों का कुल क्षेत्रफल 784 मीटर^2 है, तो कमरे की ऊँचाई क्या है?

Options :

1. ✘ 16 मीटर
2. ✔ 14 मीटर
3. ✘ 12 मीटर
4. ✘ 13 मीटर

Question Number : 113 Question Id : 5459276981 Question Type : MCQ Option Shuffling : Yes Display Question Number : Yes
Single Line Question Option : No Option Orientation : Vertical

Correct Marks : 1 Wrong Marks : 0.25

A copper sphere of diameter 24 cm is drawn into a wire of diameter 8 mm. What is the length of the wire?

Options :

1. ✘ 1240 cm
2. ✔ 1440 cm
3. ✘ 1600 cm
4. ✘ 1400 cm

Question Number : 113 Question Id : 5459276981 Question Type : MCQ Option Shuffling : Yes Display Question Number : Yes
Single Line Question Option : No Option Orientation : Vertical

Correct Marks : 1 Wrong Marks : 0.25

24 से.मी. व्यास वाले एक तांबे के गोले को एक 8 मि.मी. व्यास वाली तार में परिवर्तित किया गया है। तार की लम्बाई क्या है?

Options :

1. ✘ 1240 से.मी.
2. ✔ 1440 से.मी.
3. ✘ 1600 से.मी.
4. ✘ 1400 से.मी.

Question Number : 114 Question Id : 5459276982 Question Type : MCQ Option Shuffling : Yes Display Question Number : Yes
Single Line Question Option : No Option Orientation : Vertical

Correct Marks : 1 Wrong Marks : 0.25

The height of a solid cone is 40 cm and the radius of its base is 30 cm. What is the cost of painting the total surface area of the cone at the rate of Rs 7 per cm^2 ?

Options :

- ✗ Rs 62,800
- ✓ Rs 52,800
- ✗ Rs 48,800
- ✗ Rs 56,800

Question Number : 114 Question Id : 5459276982 Question Type : MCQ Option Shuffling : Yes Display Question Number : Yes Single Line Question Option : No Option Orientation : Vertical

Correct Marks : 1 Wrong Marks : 0.25

एक ठोस शंकु की ऊँचाई 40 से.मी. है तथा उसके आधार की त्रिज्या 30 से.मी. है। 7 रुपये प्रति से.मी.² की दर से शंकु के कुल पृष्ठीय क्षेत्रफल को रंगने का मूल्य क्या है?

Options :

- ✗ 62,800 रुपये
- ✓ 52,800 रुपये
- ✗ 48,800 रुपये
- ✗ 56,800 रुपये

Question Number : 115 Question Id : 5459276983 Question Type : MCQ Option Shuffling : Yes Display Question Number : Yes Single Line Question Option : No Option Orientation : Vertical

Correct Marks : 1 Wrong Marks : 0.25

The table given below shows the number of shirts of different companies in a shop.

| Company | Number of shirts |
|---------|------------------|
| C1 | 27 |
| C2 | 33 |
| C3 | 26 |
| C4 | 23 |
| C5 | 43 |
| C6 | 41 |

What is the ratio of number of shirts of company C1 to the total number of shirts of company C2 and C3?

Options :

- ✓ 27 : 59
- ✗ 59 : 27
- ✗ 61 : 27
- ✗ 27 : 61

Question Number : 115 Question Id : 5459276983 Question Type : MCQ Option Shuffling : Yes Display Question Number : Yes Single Line Question Option : No Option Orientation : Vertical

Correct Marks : 1 Wrong Marks : 0.25

नीचे दी गई तालिका एक दुकान में विभिन्न कंपनियों की कमीज़ों की संख्या को दर्शाती है।

| कंपनी | कमीज़ों की संख्या |
|-------|-------------------|
| C1 | 27 |
| C2 | 33 |
| C3 | 26 |
| C4 | 23 |
| C5 | 43 |
| C6 | 41 |

कंपनी C1 की कमीज़ों की संख्या का कंपनी C2 तथा C3 की कमीज़ों की कुल संख्या से क्या अनुपात है?

Options :

- ✓ 27 : 59
- ✗ 59 : 27
- ✗ 61 : 27
- ✗ 27 : 61

Question Number : 116 Question Id : 5459276984 Question Type : MCQ Option Shuffling : Yes Display Question Number : Yes Single Line Question Option : No Option Orientation : Vertical

Correct Marks : 1 Wrong Marks : 0.25

The pie chart given below shows the number of tigers in different zoos. The number of tigers in a particular zoo are shown as a percentage of total number of tiger in all the zoos together.



What is the difference in central angle of the sectors for Z1 and Z3?

Options :

- ✗ 18°
- ✗ 36°
- ✓ 54°
- ✗ 72°

Question Number : 116 Question Id : 5459276984 Question Type : MCQ Option Shuffling : Yes Display Question Number : Yes Single Line Question Option : No Option Orientation : Vertical

Correct Marks : 1 Wrong Marks : 0.25

नीचे दिया गया वृत्त चित्र विभिन्न चिड़ियाघरों में बाघों की संख्या को दर्शाता है। एक विशिष्ट चिड़ियाघर में बाघों की संख्या को सभी चिड़ियाघर में मिलाकर बाघों की कुल संख्या के प्रतिशत के रूप में दर्शाया गया है।



Z1 तथा Z3 के खण्ड द्वारा बनाये गये का केंद्रीय कोणों में क्या अंतर है?

Options :

1. ✘ 18°
2. ✘ 36°
3. ✔ 54°
4. ✘ 72°

Question Number : 117 Question Id : 5459276985 Question Type : MCQ Option Shuffling : Yes Display Question Number : Yes Single Line Question Option : No Option Orientation : Vertical

Correct Marks : 1 Wrong Marks : 0.25

The pie chart given below shows the number of female students in different subjects. The number of female students in a particular subject are shown as a percentage of total number of female students in all the subjects together.



If the total number of female students are 3600, then what is the difference in number of female students in subjects S1 and S4?

Options :

1. ✘ 412
2. ✘ 456
3. ✘ 400
4. ✔ 432

Question Number : 117 Question Id : 5459276985 Question Type : MCQ Option Shuffling : Yes Display Question Number : Yes Single Line Question Option : No Option Orientation : Vertical

Correct Marks : 1 Wrong Marks : 0.25

नीचे दिया गया वृत्त चित्र विभिन्न विषयों में महिला छात्रों की संख्या को दर्शाता है। एक विशिष्ट विषय में महिला छात्रों की संख्या को सभी विषयों में मिलाकर महिला छात्रों की कुल संख्या के प्रतिशत के रूप में दर्शाया गया है।



यदि महिला छात्रों की कुल संख्या 3600 है, तो विषय S1 तथा S4 में महिला छात्रों की संख्या में अंतर क्या है?

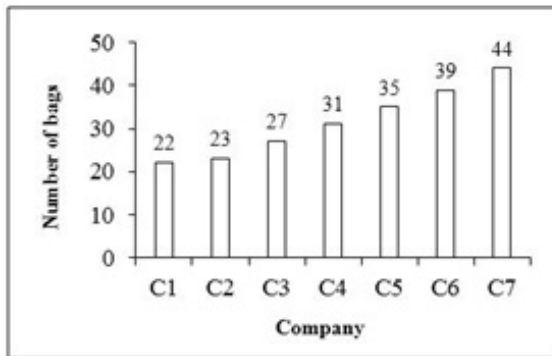
Options :

- ✘ 412
- ✘ 456
- ✘ 400
- ✔ 432

Question Number : 118 Question Id : 5459276986 Question Type : MCQ Option Shuffling : Yes Display Question Number : Yes Single Line Question Option : No Option Orientation : Vertical

Correct Marks : 1 Wrong Marks : 0.25

The bar graph given below shows the number of bags of different companies in a shop.



What is the total number of bags in the shop?

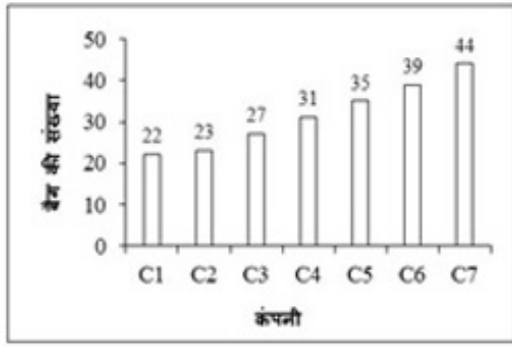
Options :

- ✘ 230
- ✔ 221
- ✘ 232
- ✘ 223

Question Number : 118 Question Id : 5459276986 Question Type : MCQ Option Shuffling : Yes Display Question Number : Yes Single Line Question Option : No Option Orientation : Vertical

Correct Marks : 1 Wrong Marks : 0.25

नीचे दिया गया दण्ड चित्र एक दुकान में विभिन्न कंपनियों के बैगों की संख्या को दर्शाता है।



दुकान में बैग की कुल संख्या क्या है?

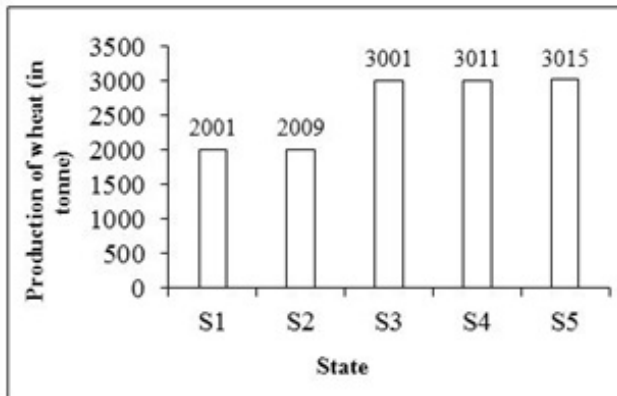
Options :

- ✘ 230
- ✔ 221
- ✘ 232
- ✘ 223

Question Number : 119 Question Id : 5459276987 Question Type : MCQ Option Shuffling : Yes Display Question Number : Yes Single Line Question Option : No Option Orientation : Vertical

Correct Marks : 1 Wrong Marks : 0.25

The bar graph given below shows the production of wheat (in tonnes) in different states.



The production of wheat in S2 is how much less than the average production of wheat (in tonnes) per state?


Options :

- ✔ 598.4 tonne
- ✘ 698.4 tonne
- ✘ 798.4 tonne
- ✘ 898.4 tonne

Question Number : 119 Question Id : 5459276987 Question Type : MCQ Option Shuffling : Yes Display Question Number : Yes Single Line Question Option : No Option Orientation : Vertical

Correct Marks : 1 Wrong Marks : 0.25

नीचे दिया गया दण्ड चित्र विभिन्न राज्य में गेहूँ के उत्पादन (रन में) को दर्शाता है।



S2 में गेहूँ का उत्पादन (रन में) गेहूँ के प्रति राज्य औसत उत्पादन से कितने प्रतिशत कम है?

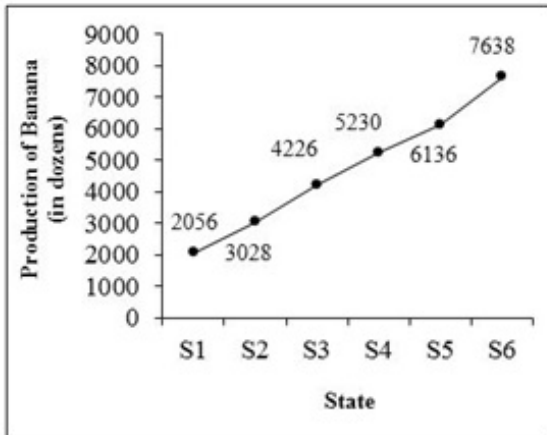
Options :

1. ✓ 598.4 रन
2. ✗ 698.4 रन
3. ✗ 798.4 रन
4. ✗ 898.4 रन

Question Number : 120 Question Id : 5459276988 Question Type : MCQ Option Shuffling : Yes Display Question Number : Yes Single Line Question Option : No Option Orientation : Vertical

Correct Marks : 1 Wrong Marks : 0.25

The line graph given below shows the number of bananas (in dozens) produced in different states of a country.



The production of bananas in S6 is how much percent more than S1?

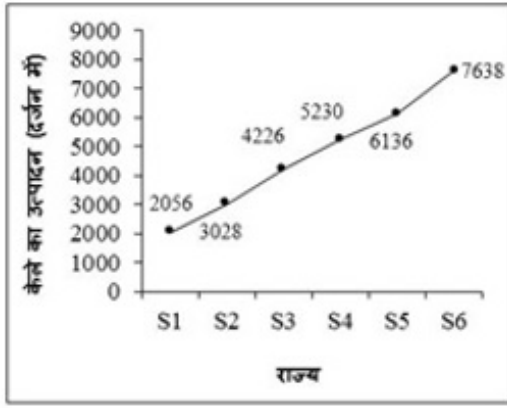
Options :

1. ✗ 312.62 percent
2. ✗ 208.12 percent
3. ✓ 271.49 percent
4. ✗ 248.44 percent

Question Number : 120 Question Id : 5459276988 Question Type : MCQ Option Shuffling : Yes Display Question Number : Yes Single Line Question Option : No Option Orientation : Vertical

Correct Marks : 1 Wrong Marks : 0.25

नीचे दिया गया रेखा चित्र देश के विभिन्न राज्यों में उत्पादित केले की संख्या (दर्जनों में) को दर्शाता है।



S6 में केलों का उत्पादन S1 से कितने प्रतिशत अधिक है?

Options :

- ✘ 312.62 प्रतिशत
- ✘ 208.12 प्रतिशत
- ✔ 271.49 प्रतिशत
- ✘ 248.44 प्रतिशत

General English1

| | |
|---|-----------|
| Group Number : | 7 |
| Group Id : | 545927347 |
| Group Maximum Duration : | 0 |
| Group Minimum Duration : | 0 |
| Revisit allowed for view? : | No |
| Revisit allowed for edit? : | No |
| Break time: | 0 |
| Group Marks: | 20 |
| Revisit allowed for group Instructions? : | Yes |
| Maximum Instruction Time: | 0 |
| Minimum Instruction Time: | 0 |

General English1

| | |
|--------------------------------------|-----------|
| Section Id : | 545927347 |
| Section Number : | 1 |
| Section type : | Online |
| Mandatory or Optional: | Mandatory |
| Number of Questions: | 20 |
| Number of Questions to be attempted: | 20 |
| Section Marks: | 20 |
| Display Number Panel: | Yes |
| Group All Questions: | No |

| | |
|------------------------------|-----------|
| Sub-Section Number: | 1 |
| Sub-Section Id: | 545927415 |
| Question Shuffling Allowed : | Yes |

Question Number : 121 Question Id : 5459276989 Question Type : MCQ Option Shuffling : Yes Display Question Number : Yes
Single Line Question Option : No Option Orientation : Vertical

Correct Marks : 1 Wrong Marks : 0.25

Find the part of the given sentence that has an error in it. If there is no error, choose 'No error'.

His actions (1) / call for (2) an explanation (3) /. No error (4)

Options :

1. ✘ 1

2. ✘ 2

3. ✘ 3

4. ✔ 4

Question Number : 121 Question Id : 5459276989 Question Type : MCQ Option Shuffling : Yes Display Question Number : Yes
Single Line Question Option : No Option Orientation : Vertical

Correct Marks : 1 Wrong Marks : 0.25

Find the part of the given sentence that has an error in it. If there is no error, choose 'No error'.

His actions (1) / call for (2) an explanation (3) /. No error (4)

Options :

1. ✘ 1

2. ✘ 2

3. ✘ 3

4. ✔ 4

Question Number : 122 Question Id : 5459276990 Question Type : MCQ Option Shuffling : Yes Display Question Number : Yes
Single Line Question Option : No Option Orientation : Vertical

Correct Marks : 1 Wrong Marks : 0.25

Find the part of the given sentence that has an error in it. If there is no error, choose 'No error'.

She bring up (1) / the orphan (2) / as her own child (3) /. No error (4)

Options :

1. ✔ 1

2. ✘ 2

3. ✘ 3

4. ✘ 4

Question Number : 122 Question Id : 5459276990 Question Type : MCQ Option Shuffling : Yes Display Question Number : Yes
Single Line Question Option : No Option Orientation : Vertical

Correct Marks : 1 Wrong Marks : 0.25

Find the part of the given sentence that has an error in it. If there is no error, choose 'No error'.

She bring up (1) / the orphan (2) / as her own child (3) /. No error (4)

Options :

1. ✔ 1

2. ✘ 2

3. ✘ 3

4. ✘ 4

Question Number : 123 Question Id : 5459276991 Question Type : MCQ Option Shuffling : Yes Display Question Number : Yes
Single Line Question Option : No Option Orientation : Vertical

Correct Marks : 1 Wrong Marks : 0.25

Find the part of the given sentence that has an error in it. If there is no error, choose 'No error'.

They discussed (1) / the matter (2) / farther (3) /. No error (4)

Options :

1. ✘ 1
2. ✘ 2
3. ✔ 3
4. ✘ 4

Question Number : 123 Question Id : 5459276991 Question Type : MCQ Option Shuffling : Yes Display Question Number : Yes
Single Line Question Option : No Option Orientation : Vertical

Correct Marks : 1 Wrong Marks : 0.25

Find the part of the given sentence that has an error in it. If there is no error, choose 'No error'.

They discussed (1) / the matter (2) / farther (3) /. No error (4)

Options :

1. ✘ 1
2. ✘ 2
3. ✔ 3
4. ✘ 4

Question Number : 124 Question Id : 5459276992 Question Type : MCQ Option Shuffling : Yes Display Question Number : Yes
Single Line Question Option : No Option Orientation : Vertical

Correct Marks : 1 Wrong Marks : 0.25

Find the part of the given sentence that has an error in it. If there is no error, choose 'No error'.

A herd of grapes (1) / is kept (2) / on the table (3) /. No error (4)

Options :

1. ✔ 1
2. ✘ 2
3. ✘ 3
4. ✘ 4

Question Number : 124 Question Id : 5459276992 Question Type : MCQ Option Shuffling : Yes Display Question Number : Yes
Single Line Question Option : No Option Orientation : Vertical

Correct Marks : 1 Wrong Marks : 0.25

Find the part of the given sentence that has an error in it. If there is no error, choose 'No error'.

A herd of grapes (1) / is kept (2) / on the table (3) /. No error (4)

Options :

1. ✔ 1
2. ✘ 2
3. ✘ 3
4. ✘ 4

Question Number : 125 Question Id : 5459276993 Question Type : MCQ Option Shuffling : Yes Display Question Number : Yes
Single Line Question Option : No Option Orientation : Vertical

Correct Marks : 1 Wrong Marks : 0.25

Find the part of the given sentence that has an error in it. If there is no error, choose 'No error'.

There is a (1) / great different between (2) / the two statements (3) /. No error (4)

Options :

1. ✘ 1
2. ✔ 2
3. ✘ 3
4. ✘ 4

Question Number : 125 Question Id : 5459276993 Question Type : MCQ Option Shuffling : Yes Display Question Number : Yes
Single Line Question Option : No Option Orientation : Vertical

Correct Marks : 1 Wrong Marks : 0.25

Find the part of the given sentence that has an error in it. If there is no error, choose 'No error'.

There is a (1) / great different between (2) / the two statements (3) /. No error (4)

Options :

1. ✘ 1
2. ✔ 2
3. ✘ 3
4. ✘ 4

Question Number : 126 Question Id : 5459276994 Question Type : MCQ Option Shuffling : Yes Display Question Number : Yes
Single Line Question Option : No Option Orientation : Vertical

Correct Marks : 1 Wrong Marks : 0.25

Improve the bracketed part of the sentence.

One of (my teachers) has received an award.

Options :

1. ✘ my teacher
2. ✘ the teacher
3. ✘ teacher
4. ✔ No Improvement

Question Number : 126 Question Id : 5459276994 Question Type : MCQ Option Shuffling : Yes Display Question Number : Yes
Single Line Question Option : No Option Orientation : Vertical

Correct Marks : 1 Wrong Marks : 0.25

Improve the bracketed part of the sentence.

One of (my teachers) has received an award.

Options :

1. ✘ my teacher
2. ✘ the teacher
3. ✘ teacher
4. ✔ No Improvement

Question Number : 127 Question Id : 5459276995 Question Type : MCQ Option Shuffling : Yes Display Question Number : Yes
Single Line Question Option : No Option Orientation : Vertical

Correct Marks : 1 Wrong Marks : 0.25

Improve the bracketed part of the sentence.

In 1947, when the Declaration of Independence (signed), India became a new country.

Options :

1. ✘ sign
2. ✘ that signed
3. ✔ was signed
4. ✘ No Improvement

Question Number : 127 Question Id : 5459276995 Question Type : MCQ Option Shuffling : Yes Display Question Number : Yes
Single Line Question Option : No Option Orientation : Vertical

Correct Marks : 1 Wrong Marks : 0.25

Improve the bracketed part of the sentence.

In 1947, when the Declaration of Independence (signed), India became a new country.

Options :

1. ✘ sign
2. ✘ that signed
3. ✔ was signed
4. ✘ No Improvement

Question Number : 128 Question Id : 5459276996 Question Type : MCQ Option Shuffling : Yes Display Question Number : Yes
Single Line Question Option : No Option Orientation : Vertical

Correct Marks : 1 Wrong Marks : 0.25

Improve the bracketed part of the sentence.

(A power failure) are common nowadays.

Options :

1. ✔ Power failures
2. ✘ Power failure
3. ✘ The power failure
4. ✘ No Improvement

Question Number : 128 Question Id : 5459276996 Question Type : MCQ Option Shuffling : Yes Display Question Number : Yes
Single Line Question Option : No Option Orientation : Vertical

Correct Marks : 1 Wrong Marks : 0.25

Improve the bracketed part of the sentence.

(A power failure) are common nowadays.

Options :

1. ✔ Power failures
2. ✘ Power failure
3. ✘ The power failure
4. ✘ No Improvement

Question Number : 129 Question Id : 5459276997 Question Type : MCQ Option Shuffling : Yes Display Question Number : Yes
Single Line Question Option : No Option Orientation : Vertical

Correct Marks : 1 Wrong Marks : 0.25

Improve the bracketed part of the sentence.

His life is hanging (by) a thread.

Options :

1. ✘ with

- ✘ at
- ✘ to
- ✔ No Improvement

Question Number : 129 Question Id : 5459276997 Question Type : MCQ Option Shuffling : Yes Display Question Number : Yes
Single Line Question Option : No Option Orientation : Vertical

Correct Marks : 1 Wrong Marks : 0.25

Improve the bracketed part of the sentence.

His life is hanging (by) a thread.

Options :

- ✘ with
- ✘ at
- ✘ to
- ✔ No Improvement

Question Number : 130 Question Id : 5459276998 Question Type : MCQ Option Shuffling : Yes Display Question Number : Yes
Single Line Question Option : No Option Orientation : Vertical

Correct Marks : 1 Wrong Marks : 0.25

Improve the bracketed part of the sentence.

We will start (on) 5 O' clock in the morning.

Options :

- ✔ at
- ✘ by
- ✘ to
- ✘ No Improvement

Question Number : 130 Question Id : 5459276998 Question Type : MCQ Option Shuffling : Yes Display Question Number : Yes
Single Line Question Option : No Option Orientation : Vertical

Correct Marks : 1 Wrong Marks : 0.25

Improve the bracketed part of the sentence.

We will start (on) 5 O' clock in the morning.

Options :

- ✔ at
- ✘ by
- ✘ to
- ✘ No Improvement

Question Number : 131 Question Id : 5459276999 Question Type : MCQ Option Shuffling : Yes Display Question Number : Yes
Single Line Question Option : No Option Orientation : Vertical

Correct Marks : 1 Wrong Marks : 0.25

A sentence has been given with a blank to be filled with an appropriate word. Choose the correct alternative.

You _____ improve your spellings.

Options :

- ✘ had
- ✔ must
- ✘ ought

4. ✘ have

Question Number : 131 Question Id : 5459276999 Question Type : MCQ Option Shuffling : Yes Display Question Number : Yes
Single Line Question Option : No Option Orientation : Vertical

Correct Marks : 1 Wrong Marks : 0.25

A sentence has been given with a blank to be filled with an appropriate word. Choose the correct alternative.

You _____ improve your spellings.

Options :

1. ✘ had

2. ✔ must

3. ✘ ought

4. ✘ have

Question Number : 132 Question Id : 5459277000 Question Type : MCQ Option Shuffling : Yes Display Question Number : Yes
Single Line Question Option : No Option Orientation : Vertical

Correct Marks : 1 Wrong Marks : 0.25

A sentence has been given with a blank to be filled with an appropriate word. Choose the correct alternative.

Prices _____ to come down soon.

Options :

1. ✘ might

2. ✘ must

3. ✔ ought

4. ✘ shall

Question Number : 132 Question Id : 5459277000 Question Type : MCQ Option Shuffling : Yes Display Question Number : Yes
Single Line Question Option : No Option Orientation : Vertical

Correct Marks : 1 Wrong Marks : 0.25

A sentence has been given with a blank to be filled with an appropriate word. Choose the correct alternative.

Prices _____ to come down soon.

Options :

1. ✘ might

2. ✘ must

3. ✔ ought

4. ✘ shall

Question Number : 133 Question Id : 5459277001 Question Type : MCQ Option Shuffling : Yes Display Question Number : Yes
Single Line Question Option : No Option Orientation : Vertical

Correct Marks : 1 Wrong Marks : 0.25

A sentence has been given with a blank to be filled with an appropriate word. Choose the correct alternative.

One _____ to be careful

Options :

1. ✘ need

2. ✔ needs

3. ✘ might

4. ✘ can

Question Number : 133 Question Id : 5459277001 Question Type : MCQ Option Shuffling : Yes Display Question Number : Yes
Single Line Question Option : No Option Orientation : Vertical

Correct Marks : 1 Wrong Marks : 0.25

A sentence has been given with a blank to be filled with an appropriate word. Choose the correct alternative.

One _____ to be careful

Options :

1. ✘ need
2. ✔ needs
3. ✘ might
4. ✘ can

Question Number : 134 Question Id : 5459277002 Question Type : MCQ Option Shuffling : Yes Display Question Number : Yes
Single Line Question Option : No Option Orientation : Vertical

Correct Marks : 1 Wrong Marks : 0.25

A sentence has been given with a blank to be filled with an appropriate word. Choose the correct alternative.

He is good _____ for my purpose.

Options :

1. ✘ fully
2. ✔ enough
3. ✘ partly
4. ✘ any

Question Number : 134 Question Id : 5459277002 Question Type : MCQ Option Shuffling : Yes Display Question Number : Yes
Single Line Question Option : No Option Orientation : Vertical

Correct Marks : 1 Wrong Marks : 0.25

A sentence has been given with a blank to be filled with an appropriate word. Choose the correct alternative.

He is good _____ for my purpose.

Options :

1. ✘ fully
2. ✔ enough
3. ✘ partly
4. ✘ any

Question Number : 135 Question Id : 5459277003 Question Type : MCQ Option Shuffling : Yes Display Question Number : Yes
Single Line Question Option : No Option Orientation : Vertical

Correct Marks : 1 Wrong Marks : 0.25

A sentence has been given with a blank to be filled with an appropriate word. Choose the correct alternative.

I _____ my knee yesterday.

Options :

1. ✔ hurt
2. ✘ hurts
3. ✘ am hurt
4. ✘ has hurt

Question Number : 135 Question Id : 5459277003 Question Type : MCQ Option Shuffling : Yes Display Question Number : Yes
Single Line Question Option : No Option Orientation : Vertical

Correct Marks : 1 Wrong Marks : 0.25

A sentence has been given with a blank to be filled with an appropriate word. Choose the correct alternative.

I _____ my knee yesterday.

Options :

1. ✓ hurt
2. ✗ hurts
3. ✗ am hurt
4. ✗ has hurt

Question Number : 136 Question Id : 5459277004 Question Type : MCQ Option Shuffling : Yes Display Question Number : Yes
Single Line Question Option : No Option Orientation : Vertical

Correct Marks : 1 Wrong Marks : 0.25

A sentence has been given with a blank to be filled with an appropriate word. Choose the correct alternative.

He sat _____ a stool.

Options :

1. ✗ at
2. ✗ in
3. ✓ on
4. ✗ above

Question Number : 136 Question Id : 5459277004 Question Type : MCQ Option Shuffling : Yes Display Question Number : Yes
Single Line Question Option : No Option Orientation : Vertical

Correct Marks : 1 Wrong Marks : 0.25

A sentence has been given with a blank to be filled with an appropriate word. Choose the correct alternative.

He sat _____ a stool.

Options :

1. ✗ at
2. ✗ in
3. ✓ on
4. ✗ above

Question Number : 137 Question Id : 5459277005 Question Type : MCQ Option Shuffling : Yes Display Question Number : Yes
Single Line Question Option : No Option Orientation : Vertical

Correct Marks : 1 Wrong Marks : 0.25

A sentence has been given with a blank to be filled with an appropriate word. Choose the correct alternative.

He rules _____ a vast empire.

Options :

1. ✓ over
2. ✗ upon
3. ✗ on
4. ✗ at

Question Number : 137 Question Id : 5459277005 Question Type : MCQ Option Shuffling : Yes Display Question Number : Yes
Single Line Question Option : No Option Orientation : Vertical

Correct Marks : 1 Wrong Marks : 0.25

A sentence has been given with a blank to be filled with an appropriate word. Choose the correct alternative.

He rules _____ a vast empire.

Options :

1. ✓ over
2. ✗ upon
3. ✗ on
4. ✗ at

Question Number : 138 Question Id : 5459277006 Question Type : MCQ Option Shuffling : Yes Display Question Number : Yes
Single Line Question Option : No Option Orientation : Vertical

Correct Marks : 1 Wrong Marks : 0.25

A sentence has been given with a blank to be filled with an appropriate word. Choose the correct alternative.

His father arrived soon

Options :

1. ✗ before
2. ✗ ago
3. ✗ early
4. ✓ after

Question Number : 138 Question Id : 5459277006 Question Type : MCQ Option Shuffling : Yes Display Question Number : Yes
Single Line Question Option : No Option Orientation : Vertical

Correct Marks : 1 Wrong Marks : 0.25

A sentence has been given with a blank to be filled with an appropriate word. Choose the correct alternative.

His father arrived soon

Options :

1. ✗ before
2. ✗ ago
3. ✗ early
4. ✓ after

Question Number : 139 Question Id : 5459277007 Question Type : MCQ Option Shuffling : Yes Display Question Number : Yes
Single Line Question Option : No Option Orientation : Vertical

Correct Marks : 1 Wrong Marks : 0.25

The question below consists of a set of labeled sentences. Out of the four options given, select the most logical order of the sentences to form a coherent paragraph.

P: to encourage the development of

Q: collage industries in the village

R: an exhibition was organized

S: by the district authorities

Options :

1. ✗ PQRS
2. ✓ RSPQ
3. ✗ RQSP
4. ✗ QRPS

Question Number : 139 Question Id : 5459277007 Question Type : MCQ Option Shuffling : Yes Display Question Number : Yes
Single Line Question Option : No Option Orientation : Vertical

Correct Marks : 1 Wrong Marks : 0.25

The question below consists of a set of labeled sentences. Out of the four options given, select the most logical order of the sentences to form a coherent paragraph.

P: to encourage the development of
Q: collage industries in the village
R: an exhibition was organized
S: by the district authorities

Options :

1. ✘ PQRS
2. ✔ RSPQ
3. ✘ RQSP
4. ✘ QRPS

Question Number : 140 Question Id : 5459277008 Question Type : MCQ Option Shuffling : Yes Display Question Number : Yes
Single Line Question Option : No Option Orientation : Vertical

Correct Marks : 1 Wrong Marks : 0.25

The question below consists of a set of labeled sentences. Out of the four options given, select the most logical order of the sentences to form a coherent paragraph.

P: the achievements of
Q: peace are far more
R: lasting and renowned
S: than those of war

Options :

1. ✔ PQRS
2. ✘ QSRP
3. ✘ SRQP
4. ✘ PRQS

Question Number : 140 Question Id : 5459277008 Question Type : MCQ Option Shuffling : Yes Display Question Number : Yes
Single Line Question Option : No Option Orientation : Vertical

Correct Marks : 1 Wrong Marks : 0.25

The question below consists of a set of labeled sentences. Out of the four options given, select the most logical order of the sentences to form a coherent paragraph.

P: the achievements of
Q: peace are far more
R: lasting and renowned
S: than those of war

Options :

1. ✔ PQRS
2. ✘ QSRP
3. ✘ SRQP
4. ✘ PRQS

General English2

| | |
|-----------------------------|-----------|
| Group Number : | 8 |
| Group Id : | 545927348 |
| Group Maximum Duration : | 0 |
| Group Minimum Duration : | 0 |
| Revisit allowed for view? : | No |

| | |
|---|-----|
| Revisit allowed for edit? : | No |
| Break time: | 0 |
| Group Marks: | 20 |
| Revisit allowed for group Instructions? : | Yes |
| Maximum Instruction Time: | 0 |
| Minimum Instruction Time: | 0 |

General English2

| | |
|--------------------------------------|-----------|
| Section Id : | 545927348 |
| Section Number : | 1 |
| Section type : | Online |
| Mandatory or Optional: | Mandatory |
| Number of Questions: | 16 |
| Number of Questions to be attempted: | 16 |
| Section Marks: | 20 |
| Display Number Panel: | Yes |
| Group All Questions: | No |

| | |
|------------------------------|-----------|
| Sub-Section Number: | 1 |
| Sub-Section Id: | 545927416 |
| Question Shuffling Allowed : | Yes |

Question Number : 141 Question Id : 5459277009 Question Type : MCQ Option Shuffling : Yes Display Question Number : Yes
Single Line Question Option : No Option Orientation : Vertical

Correct Marks : 1 Wrong Marks : 0.25

The question below consists of a set of labeled sentences. Out of the four options given, select the most logical order of the sentences to form a coherent paragraph.

- P: future is always shrouded in a thick veil of mystery.
 Q: yet if we closely understand and analyze the present,
 R: man cannot know what is going to happen in future.
 S: we can form some ideas as to what the future is going to be.

Options :

1. ✘ PQRS
2. ✔ PRQS
3. ✘ RPQS
4. ✘ QSRP

Question Number : 141 Question Id : 5459277009 Question Type : MCQ Option Shuffling : Yes Display Question Number : Yes
Single Line Question Option : No Option Orientation : Vertical

Correct Marks : 1 Wrong Marks : 0.25

The question below consists of a set of labeled sentences. Out of the four options given, select the most logical order of the sentences to form a coherent paragraph.

- P: future is always shrouded in a thick veil of mystery.
 Q: yet if we closely understand and analyze the present,
 R: man cannot know what is going to happen in future.
 S: we can form some ideas as to what the future is going to be.

Options :

1. ✘ PQRS
2. ✔ PRQS

3. ✘ RPQS
4. ✘ QSRP

Question Number : 142 Question Id : 5459277010 Question Type : MCQ Option Shuffling : Yes Display Question Number : Yes
Single Line Question Option : No Option Orientation : Vertical

Correct Marks : 1 Wrong Marks : 0.25

Choose the word that means the same as the given word.

Humble

Options :

1. ✘ Bold
2. ✔ Modest
3. ✘ Proud
4. ✘ Sweet

Question Number : 142 Question Id : 5459277010 Question Type : MCQ Option Shuffling : Yes Display Question Number : Yes
Single Line Question Option : No Option Orientation : Vertical

Correct Marks : 1 Wrong Marks : 0.25

Choose the word that means the same as the given word.

Humble

Options :

1. ✘ Bold
2. ✔ Modest
3. ✘ Proud
4. ✘ Sweet

Question Number : 143 Question Id : 5459277011 Question Type : MCQ Option Shuffling : Yes Display Question Number : Yes
Single Line Question Option : No Option Orientation : Vertical

Correct Marks : 1 Wrong Marks : 0.25

Choose the word that means the same as the given word.

Lavish

Options :

1. ✔ Grand
2. ✘ Less
3. ✘ Scanty
4. ✘ Scarce

Question Number : 143 Question Id : 5459277011 Question Type : MCQ Option Shuffling : Yes Display Question Number : Yes
Single Line Question Option : No Option Orientation : Vertical

Correct Marks : 1 Wrong Marks : 0.25

Choose the word that means the same as the given word.

Lavish

Options :

1. ✔ Grand
2. ✘ Less
3. ✘ Scanty
4. ✘ Scarce

Question Number : 144 Question Id : 5459277012 Question Type : MCQ Option Shuffling : Yes Display Question Number : Yes
Single Line Question Option : No Option Orientation : Vertical

Correct Marks : 1 Wrong Marks : 0.25

Choose the word that means the same as the given word.

Timid

Options :

1. ✘ Intrepid
2. ✔ Coward
3. ✘ Bold
4. ✘ Brave

Question Number : 144 Question Id : 5459277012 Question Type : MCQ Option Shuffling : Yes Display Question Number : Yes
Single Line Question Option : No Option Orientation : Vertical

Correct Marks : 1 Wrong Marks : 0.25

Choose the word that means the same as the given word.

Timid

Options :

1. ✘ Intrepid
2. ✔ Coward
3. ✘ Bold
4. ✘ Brave

Question Number : 145 Question Id : 5459277013 Question Type : MCQ Option Shuffling : Yes Display Question Number : Yes
Single Line Question Option : No Option Orientation : Vertical

Correct Marks : 1 Wrong Marks : 0.25

Choose the word that means the same as the given word.

Compliant

Options :

1. ✘ Untamable
2. ✘ Stubborn
3. ✔ Meek
4. ✘ Wild

Question Number : 145 Question Id : 5459277013 Question Type : MCQ Option Shuffling : Yes Display Question Number : Yes
Single Line Question Option : No Option Orientation : Vertical

Correct Marks : 1 Wrong Marks : 0.25

Choose the word that means the same as the given word.

Compliant

Options :

1. ✘ Untamable
2. ✘ Stubborn
3. ✔ Meek
4. ✘ Wild

Question Number : 146 Question Id : 5459277014 Question Type : MCQ Option Shuffling : Yes Display Question Number : Yes
Single Line Question Option : No Option Orientation : Vertical

Correct Marks : 1 Wrong Marks : 0.25

Choose the word that is opposite in meaning to the given word.

Elegant

Options :

- ✘ Shimmery
- ✘ Awkward
- ✘ Gorgeous
- ✔ Uncouth

Question Number : 146 Question Id : 5459277014 Question Type : MCQ Option Shuffling : Yes Display Question Number : Yes
Single Line Question Option : No Option Orientation : Vertical

Correct Marks : 1 Wrong Marks : 0.25

Choose the word that is opposite in meaning to the given word.

Elegant

Options :

- ✘ Shimmery
- ✘ Awkward
- ✘ Gorgeous
- ✔ Uncouth

Question Number : 147 Question Id : 5459277015 Question Type : MCQ Option Shuffling : Yes Display Question Number : Yes
Single Line Question Option : No Option Orientation : Vertical

Correct Marks : 1 Wrong Marks : 0.25

In the given question, four words are given out of which one word is correctly spelt. Choose the correctly spelt word.

Options :

- ✔ Grateful
- ✘ Gretful
- ✘ Gratefull
- ✘ Greteful

Question Number : 147 Question Id : 5459277015 Question Type : MCQ Option Shuffling : Yes Display Question Number : Yes
Single Line Question Option : No Option Orientation : Vertical

Correct Marks : 1 Wrong Marks : 0.25

In the given question, four words are given out of which one word is correctly spelt. Choose the correctly spelt word.

Options :

- ✔ Grateful
- ✘ Gretful
- ✘ Gratefull
- ✘ Greteful

Question Number : 148 Question Id : 5459277016 Question Type : MCQ Option Shuffling : Yes Display Question Number : Yes
Single Line Question Option : No Option Orientation : Vertical

Correct Marks : 1 Wrong Marks : 0.25

In the given question, four words are given out of which one word is correctly spelt. Choose the correctly spelt word.

Options :

1. ✘ Leissure
2. ✘ Liesure
3. ✘ Leisur
4. ✔ Leisure

Question Number : 148 Question Id : 5459277016 Question Type : MCQ Option Shuffling : Yes Display Question Number : Yes Single Line Question Option : No Option Orientation : Vertical

Correct Marks : 1 Wrong Marks : 0.25

In the given question, four words are given out of which one word is correctly spelt. Choose the correctly spelt word.

Options :

1. ✘ Leissure
2. ✘ Liesure
3. ✘ Leisur
4. ✔ Leisure

Question Number : 149 Question Id : 5459277017 Question Type : MCQ Option Shuffling : Yes Display Question Number : Yes Single Line Question Option : No Option Orientation : Vertical

Correct Marks : 1 Wrong Marks : 0.25

In the given question, four words are given out of which one word is correctly spelt. Choose the correctly spelt word.

Options :

1. ✘ Hiererchy
2. ✘ Heirarchy
3. ✘ Hierarkey
4. ✔ Hierarchy

Question Number : 149 Question Id : 5459277017 Question Type : MCQ Option Shuffling : Yes Display Question Number : Yes Single Line Question Option : No Option Orientation : Vertical

Correct Marks : 1 Wrong Marks : 0.25

In the given question, four words are given out of which one word is correctly spelt. Choose the correctly spelt word.

Options :

1. ✘ Hiererchy
2. ✘ Heirarchy
3. ✘ Hierarkey
4. ✔ Hierarchy

Question Number : 150 Question Id : 5459277018 Question Type : MCQ Option Shuffling : Yes Display Question Number : Yes Single Line Question Option : No Option Orientation : Vertical

Correct Marks : 1 Wrong Marks : 0.25

In the following question, out of the given four alternatives, select the alternative which best expresses the meaning of the Idiom/Phrase.

The ball is in your court

Options :

1. ✘ Confess to the act
2. ✔ The next action is from your side
3. ✘ Fearful

4. ✘ A bad person

Question Number : 150 Question Id : 5459277018 Question Type : MCQ Option Shuffling : Yes Display Question Number : Yes
Single Line Question Option : No Option Orientation : Vertical

Correct Marks : 1 Wrong Marks : 0.25

In the following question, out of the given four alternatives, select the alternative which best expresses the meaning of the Idiom/Phrase.

The ball is in your court

Options :

1. ✘ Confess to the act
2. ✔ The next action is from your side
3. ✘ Fearful
4. ✘ A bad person

Question Number : 151 Question Id : 5459277019 Question Type : MCQ Option Shuffling : Yes Display Question Number : Yes
Single Line Question Option : No Option Orientation : Vertical

Correct Marks : 1 Wrong Marks : 0.25

In the following question, out of the given four alternatives, select the alternative which best expresses the meaning of the Idiom/Phrase.

To add fuel to the fire

Options :

1. ✘ In disorder
2. ✔ To aggravate some matter
3. ✘ To be confuse
4. ✘ Pure water

Question Number : 151 Question Id : 5459277019 Question Type : MCQ Option Shuffling : Yes Display Question Number : Yes
Single Line Question Option : No Option Orientation : Vertical

Correct Marks : 1 Wrong Marks : 0.25

In the following question, out of the given four alternatives, select the alternative which best expresses the meaning of the Idiom/Phrase.

To add fuel to the fire

Options :

1. ✘ In disorder
2. ✔ To aggravate some matter
3. ✘ To be confuse
4. ✘ Pure water

Question Number : 152 Question Id : 5459277020 Question Type : MCQ Option Shuffling : Yes Display Question Number : Yes
Single Line Question Option : No Option Orientation : Vertical

Correct Marks : 1 Wrong Marks : 0.25

In the following question, out of the given four alternatives, select the alternative which best expresses the meaning of the Idiom/Phrase.

Bag and baggage

Options :

1. ✔ With full luggage
2. ✘ At one's command

3. ✘ Very dear

4. ✘ Intimate friend

Question Number : 152 Question Id : 5459277020 Question Type : MCQ Option Shuffling : Yes Display Question Number : Yes
Single Line Question Option : No Option Orientation : Vertical

Correct Marks : 1 Wrong Marks : 0.25

In the following question, out of the given four alternatives, select the alternative which best expresses the meaning of the Idiom/Phrase.

Bag and baggage

Options :

1. ✔ With full luggage

2. ✘ At one's command

3. ✘ Very dear

4. ✘ Intimate friend

Question Number : 153 Question Id : 5459277021 Question Type : MCQ Option Shuffling : Yes Display Question Number : Yes
Single Line Question Option : No Option Orientation : Vertical

Correct Marks : 1 Wrong Marks : 0.25

Choose the word that can substitute the given sentence.

An annual calendar with positions of stars

Options :

1. ✔ Almanac

2. ✘ Diary

3. ✘ Planner

4. ✘ Scheduler

Question Number : 153 Question Id : 5459277021 Question Type : MCQ Option Shuffling : Yes Display Question Number : Yes
Single Line Question Option : No Option Orientation : Vertical

Correct Marks : 1 Wrong Marks : 0.25

Choose the word that can substitute the given sentence.

An annual calendar with positions of stars

Options :

1. ✔ Almanac

2. ✘ Diary

3. ✘ Planner

4. ✘ Scheduler

Question Number : 154 Question Id : 5459277022 Question Type : MCQ Option Shuffling : Yes Display Question Number : Yes
Single Line Question Option : No Option Orientation : Vertical

Correct Marks : 1 Wrong Marks : 0.25

Choose the word that can substitute the given sentence.

Soldiers who fight on horse back

Options :

1. ✘ Major

2. ✔ Cavalry

3. ✘ Captain

4. ✘ Pilot

Question Number : 154 Question Id : 5459277022 Question Type : MCQ Option Shuffling : Yes Display Question Number : Yes
Single Line Question Option : No Option Orientation : Vertical

Correct Marks : 1 Wrong Marks : 0.25

Choose the word that can substitute the given sentence.

Soldiers who fight on horse back

Options :

1. ✘ Major
2. ✔ Cavalry
3. ✘ Captain
4. ✘ Pilot

Question Number : 155 Question Id : 5459277023 Question Type : MCQ Option Shuffling : Yes Display Question Number : Yes
Single Line Question Option : No Option Orientation : Vertical

Correct Marks : 1 Wrong Marks : 0.25

Choose the word that can substitute the given sentence.

A poem of lamentation

Options :

1. ✔ Elegy
2. ✘ Sonnet
3. ✘ Hymn
4. ✘ Epitaph

Question Number : 155 Question Id : 5459277023 Question Type : MCQ Option Shuffling : Yes Display Question Number : Yes
Single Line Question Option : No Option Orientation : Vertical

Correct Marks : 1 Wrong Marks : 0.25

Choose the word that can substitute the given sentence.

A poem of lamentation

Options :

1. ✔ Elegy
2. ✘ Sonnet
3. ✘ Hymn
4. ✘ Epitaph

| | |
|------------------------------|-----------|
| Sub-Section Number: | 2 |
| Sub-Section Id: | 545927417 |
| Question Shuffling Allowed : | Yes |

Question Id : 5459277024 Question Type : COMPREHENSION Sub Question Shuffling Allowed : Yes Group Comprehension
Questions : No

Question Numbers : (156 to 160)

Question Label : Comprehension

Read the following information carefully and answer the given questions.

The worldwide notice in power issues triggered off by the jagged increases in oil cost in 1973 and 1979 has since Waned. With the dramatic fall in oil prices in the late 1980, there is a euphoric emotion the world over that power is no longer a difficulty. Dynamic policy institute in the 1970 to include the development of energy command have been terminating in many countries. In common, the approach is one of trade as natural. India is no omission. There is no proof of approval at the rule level of the fact that for India the power future is probable to be bleak, and that ensuring sufficient energy accessibility to maintain even an unassuming rate of financial development will be the main test. Energy consumption is not an end in itself. Its importance lies in the fact that it is an essential overhead for economic development.

Energy plays a dual role. It is an input towards the productive sectors of the economy, namely agricultural and industry and the supporting infrastructure of transport. It is also a consumer good, energy consumed in a household has a direct impact on the quality of life. It is not surprising therefore those studies of energy consumption patterns across countries and over periods of time clearly establish a correlation between per capita energy consumption and per capita income. Even within a country, the affluent sections of society consume larger amounts of energy per capita than the poorer sections. The extent of access to energy at affordable prices has distributive implications.

The equity aspect must Fundamental features of India's power circumstances are well recognized and do not need amplification. Per capita expenditure of power is low, about one-fourth of the world standard and about one-twenty-fifth that of the USA and imitate the gathering scarcity still ubiquitous in the country. Long established fuels like fuelwood, animal dung, and crop remains account, even row for as much as 35 percent to 40 percent of the total energy consumption in the country.

Sub questions

Question Number : 156 Question Id : 5459277025 Question Type : MCQ Option Shuffling : Yes Display Question Number : Yes Single Line Question Option : No Option Orientation : Vertical

Correct Marks : 1 Wrong Marks : 0.25

Which of the following is opposite in meaning to affluent?

Options :

1. ✓ Failing
2. ✗ Moneyed
3. ✗ Opulent
4. ✗ Loaded

Question Number : 157 Question Id : 5459277026 Question Type : MCQ Option Shuffling : Yes Display Question Number : Yes Single Line Question Option : No Option Orientation : Vertical

Correct Marks : 1 Wrong Marks : 0.25

What does 'energy consumption has a direct impact on the quality of life' means?

Options :

1. ✗ Quality of life can be improved by more energy consumption
2. ✗ Poor people have to consume less energy due to high cost involved
3. ✓ Both quality of life can be improved by more energy consumption and poor people have to consume less energy due to high cost involved
4. ✗ No option is correct

Question Number : 158 Question Id : 5459277027 Question Type : MCQ Option Shuffling : Yes Display Question Number : Yes Single Line Question Option : No Option Orientation : Vertical

Correct Marks : 1 Wrong Marks : 0.25

The energy policy makers, should take due attention of the fact that:

Options :

1. ✗ The energy requirement of the rich in India is does not differ from that of the poor
2. ✗ India's energy situation is sound and there will be no shortage in the next future
3. ✗ India's energy requirement is far less than that of the Americans
4. ✓ Access to energy and availability, therefore are in proportion to financial status

Question Number : 159 Question Id : 5459277028 Question Type : MCQ Option Shuffling : Yes Display Question Number : Yes
Single Line Question Option : No Option Orientation : Vertical

Correct Marks : 1 Wrong Marks : 0.25

The author is of the view that the policy makers in India

Options :

- ✘ Are showing challenge of energy shortage probable challenge of energy shortage
- ✔ Are duly aware of the probable energy crises in near future
- ✘ Both a and b
- ✘ No option is correct

Question Number : 160 Question Id : 5459277029 Question Type : MCQ Option Shuffling : Yes Display Question Number : Yes
Single Line Question Option : No Option Orientation : Vertical

Correct Marks : 1 Wrong Marks : 0.25

In which pair of aspects does energy play a dual role?

Options :

- ✘ Industrial and household consumption
- ✘ Political, economic and social development
- ✔ Agricultural, industrial production, transport and consumers goods
- ✘ Agricultural and industrial production

Question Id : 5459277024 Question Type : COMPREHENSION Sub Question Shuffling Allowed : Yes Group Comprehension
Questions : No

Question Numbers : (156 to 160)

Question Label : Comprehension

Read the following information carefully and answer the given questions.

The worldwide notice in power issues triggered off by the jagged increases in oil cost in 1973 and 1979 has since Waned. With the dramatic fall in oil prices in the late 1980, there is a euphoric emotion the world over that power is no longer a difficulty. Dynamic policy institute in the 1970 to include the development of energy command have been terminating in many countries. In common, the approach is one of trade as natural. India is no omission. There is no proof of approval at the rule level of the fact that for India the power future is probable to be bleak, and that ensuring sufficient energy accessibility to maintain even an unassuming rate of financial development will be the main test. Energy consumption is not an end in itself. Its importance lies in the fact that it is an essential overhead for economic development.

Energy plays a dual role. It is an input towards the productive sectors of the economy, namely agricultural and industry and the supporting infrastructure of transport. It is also a consumer good, energy consumed in a household has a direct impact on the quality of life. It is not surprising therefore those studies of energy consumption patterns across countries and over periods of time clearly establish a correlation between per capita energy consumption and per capita income. Even within a country, the affluent sections of society consume larger amounts of energy per capita than the poorer sections. The extent of access to energy at affordable prices has distributive implications.

The equity aspect must Fundamental features of India's power circumstances are well recognized and do not need amplification. Per capita expenditure of power is low, about one-fourth of the world standard and about one-twenty-fifth that of the USA and imitate the gathering scarcity still ubiquitous in the country. Long established fuels like fuelwood, animal dung, and crop remains account, even row for as much as 35 प्रतिशत to 40 प्रतिशत of the total energy consumption in the country.

Sub questions

Question Number : 156 Question Id : 5459277025 Question Type : MCQ Option Shuffling : Yes Display Question Number : Yes
Single Line Question Option : No Option Orientation : Vertical

Correct Marks : 1 Wrong Marks : 0.25

Which of the following is opposite in meaning to affluent?

Options :

- ✔ Failing

2. ✘ Moneyed
3. ✘ Opulent
4. ✘ Loaded

Question Number : 157 Question Id : 5459277026 Question Type : MCQ Option Shuffling : Yes Display Question Number : Yes
Single Line Question Option : No Option Orientation : Vertical

Correct Marks : 1 Wrong Marks : 0.25

What does 'energy consumption has a direct impact on the quality of life' means?

Options :

1. ✘ Quality of life can be improved by more energy consumption
2. ✘ Poor people have to consume less energy due to high cost involved
3. ✔ Both quality of life can be improved by more energy consumption and poor people have to consume less energy due to high cost involved
4. ✘ No option is correct

Question Number : 158 Question Id : 5459277027 Question Type : MCQ Option Shuffling : Yes Display Question Number : Yes
Single Line Question Option : No Option Orientation : Vertical

Correct Marks : 1 Wrong Marks : 0.25

The energy policy makers, should take due attention of the fact that:

Options :

1. ✘ The energy requirement of the rich in India is does not differ from that of the poor
2. ✘ India's energy situation is sound and there will be no shortage in the next future
3. ✘ India's energy requirement is far less than that of the Americans
4. ✔ Access to energy and availability, therefore are in proportion to financial status

Question Number : 159 Question Id : 5459277028 Question Type : MCQ Option Shuffling : Yes Display Question Number : Yes
Single Line Question Option : No Option Orientation : Vertical

Correct Marks : 1 Wrong Marks : 0.25

The author is of the view that the policy makers in India

Options :

1. ✘ Are showing challenge of energy shortage probable challenge of energy shortage
2. ✔ Are duly aware of the probable energy crises in near future
3. ✘ Both a and b
4. ✘ No option is correct

Question Number : 160 Question Id : 5459277029 Question Type : MCQ Option Shuffling : Yes Display Question Number : Yes
Single Line Question Option : No Option Orientation : Vertical

Correct Marks : 1 Wrong Marks : 0.25

In which pair of aspects does energy play a dual role?

Options :

1. ✘ Industrial and household consumption
2. ✘ Political, economic and social development
3. ✔ Agricultural, industrial production, transport and consumers goods
4. ✘ Agricultural and industrial production

| | |
|---|-----------|
| Group Id : | 545927349 |
| Group Maximum Duration : | 0 |
| Group Minimum Duration : | 0 |
| Revisit allowed for view? : | No |
| Revisit allowed for edit? : | No |
| Break time: | 0 |
| Group Marks: | 20 |
| Revisit allowed for group Instructions? : | Yes |
| Maximum Instruction Time: | 0 |
| Minimum Instruction Time: | 0 |

General Hindi 1

| | |
|--------------------------------------|-----------|
| Section Id : | 545927349 |
| Section Number : | 1 |
| Section type : | Online |
| Mandatory or Optional: | Mandatory |
| Number of Questions: | 20 |
| Number of Questions to be attempted: | 20 |
| Section Marks: | 20 |
| Display Number Panel: | Yes |
| Group All Questions: | No |

| | |
|------------------------------|-----------|
| Sub-Section Number: | 1 |
| Sub-Section Id: | 545927418 |
| Question Shuffling Allowed : | Yes |

Question Number : 161 Question Id : 5459277030 Question Type : MCQ Option Shuffling : Yes Display Question Number : Yes
Single Line Question Option : No Option Orientation : Vertical

Correct Marks : 1 Wrong Marks : 0.25

दिए गए शब्द में प्रत्यय ज्ञात कीजिए।

उठती

Options :

1. ✓ न्ती
2. ✗ ठती
3. ✗ ती
4. ✗ उ

Question Number : 161 Question Id : 5459277030 Question Type : MCQ Option Shuffling : Yes Display Question Number : Yes
Single Line Question Option : No Option Orientation : Vertical

Correct Marks : 1 Wrong Marks : 0.25

दिए गए शब्द में प्रत्यय ज्ञात कीजिए।

उठती

Options :

1. ✓ न्ती
2. ✗ ठती
3. ✗ ती
4. ✗ उ

Question Number : 162 Question Id : 5459277031 Question Type : MCQ Option Shuffling : Yes Display Question Number : Yes
Single Line Question Option : No Option Orientation : Vertical

Correct Marks : 1 Wrong Marks : 0.25

दिए गए शब्द का संधि विच्छेद कीजिए।

अन्वेषण

Options :

1. ✓ अनु + एषण
2. ✗ अन + वेषण
3. ✗ अनु + वेषण
4. ✗ अन + वएषण

Question Number : 162 Question Id : 5459277031 Question Type : MCQ Option Shuffling : Yes Display Question Number : Yes
Single Line Question Option : No Option Orientation : Vertical

Correct Marks : 1 Wrong Marks : 0.25

दिए गए शब्द का संधि विच्छेद कीजिए।

अन्वेषण

Options :

1. ✓ अनु + एषण
2. ✗ अन + वेषण
3. ✗ अनु + वेषण
4. ✗ अन + वएषण

Question Number : 163 Question Id : 5459277032 Question Type : MCQ Option Shuffling : Yes Display Question Number : Yes
Single Line Question Option : No Option Orientation : Vertical

Correct Marks : 1 Wrong Marks : 0.25

दिए गए शब्द की उत्तमावस्था ज्ञात कीजिए।

महान

Options :

1. ✗ महानता
2. ✓ महत्तम
3. ✗ महानत्तर
4. ✗ महानत्व

Question Number : 163 Question Id : 5459277032 Question Type : MCQ Option Shuffling : Yes Display Question Number : Yes
Single Line Question Option : No Option Orientation : Vertical

Correct Marks : 1 Wrong Marks : 0.25

दिए गए शब्द की उत्तमावस्था ज्ञात कीजिए।

महान

Options :

1. ✗ महानता
2. ✓ महत्तम
3. ✗ महानत्तर
4. ✗ महानत्व

Question Number : 164 Question Id : 5459277033 Question Type : MCQ Option Shuffling : Yes Display Question Number : Yes
Single Line Question Option : No Option Orientation : Vertical

Correct Marks : 1 Wrong Marks : 0.25

दिए गए वाक्य में उचित संज्ञा का उपयोग करके रिक्त स्थान की पूर्ति कीजिए

कभी - कभी लोग क्रोध में अपना _____ खो बैठते थे।

Options :

1. ✘ अपनापन
2. ✔ आपा
3. ✘ दिमाग
4. ✘ पागलपन

Question Number : 164 Question Id : 5459277033 Question Type : MCQ Option Shuffling : Yes Display Question Number : Yes
Single Line Question Option : No Option Orientation : Vertical

Correct Marks : 1 Wrong Marks : 0.25

दिए गए वाक्य में उचित संज्ञा का उपयोग करके रिक्त स्थान की पूर्ति कीजिए

कभी - कभी लोग क्रोध में अपना _____ खो बैठते थे।

Options :

1. ✘ अपनापन
2. ✔ आपा
3. ✘ दिमाग
4. ✘ पागलपन

Question Number : 165 Question Id : 5459277034 Question Type : MCQ Option Shuffling : Yes Display Question Number : Yes
Single Line Question Option : No Option Orientation : Vertical

Correct Marks : 1 Wrong Marks : 0.25

दिए गए वाक्य में रेखांकित भाग किस प्रकार का क्रिया विशेषण है ज्ञात कीजिए।

दादी कल उपहार लाएँगी।

Options :

1. ✘ रीतिवाचक
2. ✘ परिमाणवाचक
3. ✔ कालवाचक
4. ✘ स्थानवाचक

Question Number : 165 Question Id : 5459277034 Question Type : MCQ Option Shuffling : Yes Display Question Number : Yes
Single Line Question Option : No Option Orientation : Vertical

Correct Marks : 1 Wrong Marks : 0.25

दिए गए वाक्य में रेखांकित भाग किस प्रकार का क्रिया विशेषण है ज्ञात कीजिए।

दादी कल उपहार लाएँगी।

Options :

1. ✘ रीतिवाचक
2. ✘ परिमाणवाचक
3. ✔ कालवाचक
4. ✘ स्थानवाचक

Question Number : 166 Question Id : 5459277035 Question Type : MCQ Option Shuffling : Yes Display Question Number : Yes
Single Line Question Option : No Option Orientation : Vertical

Correct Marks : 1 Wrong Marks : 0.25

दिए गए शब्द युग्म का अर्थ ज्ञात कीजिए।

अंब - अंबु

Options :

1. ✓ माता - जल
2. ✗ अम्बा - देवी
3. ✗ जल - माता
4. ✗ देवी - फल

Question Number : 166 Question Id : 5459277035 Question Type : MCQ Option Shuffling : Yes Display Question Number : Yes
Single Line Question Option : No Option Orientation : Vertical

Correct Marks : 1 Wrong Marks : 0.25

दिए गए शब्द युग्म का अर्थ ज्ञात कीजिए।

अंब - अंबु

Options :

1. ✓ माता - जल
2. ✗ अम्बा - देवी
3. ✗ जल - माता
4. ✗ देवी - फल

Question Number : 167 Question Id : 5459277036 Question Type : MCQ Option Shuffling : Yes Display Question Number : Yes
Single Line Question Option : No Option Orientation : Vertical

Correct Marks : 1 Wrong Marks : 0.25

दिए गए वाक्यांश के लिए उचित शब्द का चयन कीजिए।

जिसके पास कुछ न हो।

Options :

1. ✗ अकुछ
2. ✓ अकिंचन
3. ✗ निकुछ
4. ✗ अपास

Question Number : 167 Question Id : 5459277036 Question Type : MCQ Option Shuffling : Yes Display Question Number : Yes
Single Line Question Option : No Option Orientation : Vertical

Correct Marks : 1 Wrong Marks : 0.25

दिए गए वाक्यांश के लिए उचित शब्द का चयन कीजिए।

जिसके पास कुछ न हो।

Options :

1. ✗ अकुछ
2. ✓ अकिंचन
3. ✗ निकुछ
4. ✗ अपास

Question Number : 168 Question Id : 5459277037 Question Type : MCQ Option Shuffling : Yes Display Question Number : Yes
Single Line Question Option : No Option Orientation : Vertical

Correct Marks : 1 Wrong Marks : 0.25

निम्नलिखित में से किसी सभा का प्रधान क्या कहलाता है?

Options :

1. ✘ सभाप्रधान
2. ✘ सभाराजा
3. ✔ सभापति
4. ✘ सभाप्रद

Question Number : 168 Question Id : 5459277037 Question Type : MCQ Option Shuffling : Yes Display Question Number : Yes
Single Line Question Option : No Option Orientation : Vertical

Correct Marks : 1 Wrong Marks : 0.25

निम्नलिखित में से किसी सभा का प्रधान क्या कहलाता है?

Options :

1. ✘ सभाप्रधान
2. ✘ सभाराजा
3. ✔ सभापति
4. ✘ सभाप्रद

Question Number : 169 Question Id : 5459277038 Question Type : MCQ Option Shuffling : Yes Display Question Number : Yes
Single Line Question Option : No Option Orientation : Vertical

Correct Marks : 1 Wrong Marks : 0.25

दिए गए शब्दों का पर्यायवाची ज्ञात कीजिए।

सुस्त, ढीला तथा धीमा

Options :

1. ✔ शिथिल
2. ✘ षीथिल
3. ✘ शीथिल
4. ✘ शीथील

Question Number : 169 Question Id : 5459277038 Question Type : MCQ Option Shuffling : Yes Display Question Number : Yes
Single Line Question Option : No Option Orientation : Vertical

Correct Marks : 1 Wrong Marks : 0.25

दिए गए शब्दों का पर्यायवाची ज्ञात कीजिए।

सुस्त, ढीला तथा धीमा

Options :

1. ✔ शिथिल
2. ✘ षीथिल
3. ✘ शीथिल
4. ✘ शीथील

Question Number : 170 Question Id : 5459277039 Question Type : MCQ Option Shuffling : Yes Display Question Number : Yes
Single Line Question Option : No Option Orientation : Vertical

Correct Marks : 1 Wrong Marks : 0.25

दिए गए शब्द का विलोम शब्द ज्ञात कीजिए।

रुग्ण

Options :

1. ✘ नाराज
2. ✘ खुश
3. ✔ स्वस्थ

4. ✘ नम्र

Question Number : 170 Question Id : 5459277039 Question Type : MCQ Option Shuffling : Yes Display Question Number : Yes
Single Line Question Option : No Option Orientation : Vertical

Correct Marks : 1 Wrong Marks : 0.25

दिए गए शब्द का विलोम शब्द ज्ञात कीजिए।

रूपा

Options :

1. ✘ नाराज
2. ✘ खुश
3. ✔ स्वस्थ
4. ✘ नम्र

Question Number : 171 Question Id : 5459277040 Question Type : MCQ Option Shuffling : Yes Display Question Number : Yes
Single Line Question Option : No Option Orientation : Vertical

Correct Marks : 1 Wrong Marks : 0.25

दिए गए शब्दों में से शुद्ध वर्तनी का चयन कीजिए।

Options :

1. ✘ पयनिधि
2. ✘ पएनिधि
3. ✘ पयोनीधि
4. ✔ पयोनिधि

Question Number : 171 Question Id : 5459277040 Question Type : MCQ Option Shuffling : Yes Display Question Number : Yes
Single Line Question Option : No Option Orientation : Vertical

Correct Marks : 1 Wrong Marks : 0.25

दिए गए शब्दों में से शुद्ध वर्तनी का चयन कीजिए।

Options :

1. ✘ पयनिधि
2. ✘ पएनिधि
3. ✘ पयोनीधि
4. ✔ पयोनिधि

Question Number : 172 Question Id : 5459277041 Question Type : MCQ Option Shuffling : Yes Display Question Number : Yes
Single Line Question Option : No Option Orientation : Vertical

Correct Marks : 1 Wrong Marks : 0.25

दिए गए वाक्य में रिक्त स्थान की पूर्ति कीजिए।

यात्री पेड़ के _____ सो रहा है।

Options :

1. ✔ नीचे
2. ✘ बीच में
3. ✘ तुलना में
4. ✘ अतिरिक्त

Question Number : 172 Question Id : 5459277041 Question Type : MCQ Option Shuffling : Yes Display Question Number : Yes
Single Line Question Option : No Option Orientation : Vertical

Correct Marks : 1 Wrong Marks : 0.25

दिए गए वाक्य में रिक्त स्थान की पूर्ति कीजिए।

यात्री पेड़ के _____ सो रहा है।

Options :

1. ✓ नीचे
2. ✗ बीच में
3. ✗ तुलना में
4. ✗ अतिरिक्त

Question Number : 173 Question Id : 5459277042 Question Type : MCQ Option Shuffling : Yes Display Question Number : Yes
Single Line Question Option : No Option Orientation : Vertical

Correct Marks : 1 Wrong Marks : 0.25

दिए गए शब्द का पर्यायवाची ज्ञात कीजिए।

पड़ित

Note: For this question, discrepancy is found in question/answer. So, this question is ignored for all candidates.

Options :

1. आलय
2. क्षण प्रभा
3. विलक्षण
4. विसिख

Question Number : 173 Question Id : 5459277042 Question Type : MCQ Option Shuffling : Yes Display Question Number : Yes
Single Line Question Option : No Option Orientation : Vertical

Correct Marks : 1 Wrong Marks : 0.25

दिए गए शब्द का पर्यायवाची ज्ञात कीजिए।

पड़ित

Note: For this question, discrepancy is found in question/answer. So, this question is ignored for all candidates.

Options :

1. आलय
2. क्षण प्रभा
3. विलक्षण
4. विसिख

Question Number : 174 Question Id : 5459277043 Question Type : MCQ Option Shuffling : Yes Display Question Number : Yes
Single Line Question Option : No Option Orientation : Vertical

Correct Marks : 1 Wrong Marks : 0.25

निम्नलिखित शब्दों में से वर्तनी की दृष्टि से कौन सा शब्द शुद्ध है?

Options :

1. ✗ आतार
2. ✓ इतिहास
3. ✗ कारवाही
4. ✗ कुटम्ब

Question Number : 174 Question Id : 5459277043 Question Type : MCQ Option Shuffling : Yes Display Question Number : Yes
Single Line Question Option : No Option Orientation : Vertical

Correct Marks : 1 Wrong Marks : 0.25

निम्नलिखित शब्दों में से वर्तनी की दृष्टि से कौन सा शब्द शुद्ध है?

Options :

1. ✘ आतार
2. ✔ इतिहास
3. ✘ कारवाही
4. ✘ कुरम्ब

Question Number : 175 Question Id : 5459277044 Question Type : MCQ Option Shuffling : Yes Display Question Number : Yes
Single Line Question Option : No Option Orientation : Vertical

Correct Marks : 1 Wrong Marks : 0.25

दिए गए वाक्यांश के लिए उचित शब्द का चयन कीजिए।

अपनी विवाहित स्त्री

Options :

1. ✘ स्त्री
2. ✘ अबला
3. ✘ महिला
4. ✔ पत्नी

Question Number : 175 Question Id : 5459277044 Question Type : MCQ Option Shuffling : Yes Display Question Number : Yes
Single Line Question Option : No Option Orientation : Vertical

Correct Marks : 1 Wrong Marks : 0.25

दिए गए वाक्यांश के लिए उचित शब्द का चयन कीजिए।

अपनी विवाहित स्त्री

Options :

1. ✘ स्त्री
2. ✘ अबला
3. ✘ महिला
4. ✔ पत्नी

Question Number : 176 Question Id : 5459277045 Question Type : MCQ Option Shuffling : Yes Display Question Number : Yes
Single Line Question Option : No Option Orientation : Vertical

Correct Marks : 1 Wrong Marks : 0.25

दिए गए वाक्य के लिए सही वाक्य का चयन कीजिए।

गाय का दूध ताकत होता है।

Options :

1. ✔ गाय का दूध ताकतवर होता है।
2. ✘ गाय का दूध ताकत से होता है।
3. ✘ गाय का दूध से ताकती होते हैं।
4. ✘ गाय का दूध ताकत से निकलता है।

Question Number : 176 Question Id : 5459277045 Question Type : MCQ Option Shuffling : Yes Display Question Number : Yes
Single Line Question Option : No Option Orientation : Vertical

Correct Marks : 1 Wrong Marks : 0.25

दिए गए वाक्य के लिए सही वाक्य का चयन कीजिए।

गाय का दूध ताकत होता है।

Options :

1. ✔ गाय का दूध ताकतवर होता है।

2. ✘ गाय का दूध ताकत से होता है
3. ✘ गाय का दूध से ताकती होते हैं
4. ✘ गाय का दूध ताकत से निकलता है

Question Number : 177 Question Id : 5459277046 Question Type : MCQ Option Shuffling : Yes Display Question Number : Yes
Single Line Question Option : No Option Orientation : Vertical

Correct Marks : 1 Wrong Marks : 0.25

दिए गए वाक्य का काल ज्ञात कीजिए

प्रशांत खेल रहा है

Options :

1. ✔ अपूर्ण वर्तमान काल
2. ✘ संभाव्य वर्तमान काल
3. ✘ संदिग्ध वर्तमान काल
4. ✘ सामान्य वर्तमान काल

Question Number : 177 Question Id : 5459277046 Question Type : MCQ Option Shuffling : Yes Display Question Number : Yes
Single Line Question Option : No Option Orientation : Vertical

Correct Marks : 1 Wrong Marks : 0.25

दिए गए वाक्य का काल ज्ञात कीजिए

प्रशांत खेल रहा है

Options :

1. ✔ अपूर्ण वर्तमान काल
2. ✘ संभाव्य वर्तमान काल
3. ✘ संदिग्ध वर्तमान काल
4. ✘ सामान्य वर्तमान काल

Question Number : 178 Question Id : 5459277047 Question Type : MCQ Option Shuffling : Yes Display Question Number : Yes
Single Line Question Option : No Option Orientation : Vertical

Correct Marks : 1 Wrong Marks : 0.25

निम्नलिखित में से कौन सा शब्द युग्म स्त्रीलिंग - पुल्लिंग का नहीं है?

Options :

1. ✘ रानी - राजा
2. ✘ लड़की - लड़का
3. ✘ पण्डितानी - पण्डित
4. ✔ घोड़ी - अश्विनी

Question Number : 178 Question Id : 5459277047 Question Type : MCQ Option Shuffling : Yes Display Question Number : Yes
Single Line Question Option : No Option Orientation : Vertical

Correct Marks : 1 Wrong Marks : 0.25

निम्नलिखित में से कौन सा शब्द युग्म स्त्रीलिंग - पुल्लिंग का नहीं है?

Options :

1. ✘ रानी - राजा
2. ✘ लड़की - लड़का
3. ✘ पण्डितानी - पण्डित
4. ✔ घोड़ी - अश्विनी

Question Number : 179 Question Id : 5459277048 Question Type : MCQ Option Shuffling : Yes Display Question Number : Yes
Single Line Question Option : No Option Orientation : Vertical

Correct Marks : 1 Wrong Marks : 0.25

निम्नलिखित शब्दों में से कौन सा बहुवचन का रूप नहीं है?

Options :

1. ✘ बुढ़ियाँ
2. ✘ कलियाँ
3. ✔ चुहिया
4. ✘ डिबियाँ

Question Number : 179 Question Id : 5459277048 Question Type : MCQ Option Shuffling : Yes Display Question Number : Yes
Single Line Question Option : No Option Orientation : Vertical

Correct Marks : 1 Wrong Marks : 0.25

निम्नलिखित शब्दों में से कौन सा बहुवचन का रूप नहीं है?

Options :

1. ✘ बुढ़ियाँ
2. ✘ कलियाँ
3. ✔ चुहिया
4. ✘ डिबियाँ

Question Number : 180 Question Id : 5459277049 Question Type : MCQ Option Shuffling : Yes Display Question Number : Yes
Single Line Question Option : No Option Orientation : Vertical

Correct Marks : 1 Wrong Marks : 0.25

दिए गए वाक्य में रेखांकित भाग किस प्रकार कारक की विभक्ति है ज्ञात कीजिए।

छत पर बंदर बैठा है।

Options :

1. ✔ अधिकरण
2. ✘ संबोधन
3. ✘ संबंध
4. ✘ करण

Question Number : 180 Question Id : 5459277049 Question Type : MCQ Option Shuffling : Yes Display Question Number : Yes
Single Line Question Option : No Option Orientation : Vertical

Correct Marks : 1 Wrong Marks : 0.25

दिए गए वाक्य में रेखांकित भाग किस प्रकार कारक की विभक्ति है ज्ञात कीजिए।

छत पर बंदर बैठा है।

Options :

1. ✔ अधिकरण
2. ✘ संबोधन
3. ✘ संबंध
4. ✘ करण

General Hindi2

Group Number :

10

Group Id :

545927350

Group Maximum Duration :

0

| | |
|---|-----|
| Group Minimum Duration : | 120 |
| Revisit allowed for view? : | No |
| Revisit allowed for edit? : | No |
| Break time: | 0 |
| Group Marks: | 20 |
| Revisit allowed for group Instructions? : | Yes |
| Maximum Instruction Time: | 0 |
| Minimum Instruction Time: | 0 |

General Hindi2

| | |
|--------------------------------------|-----------|
| Section Id : | 545927350 |
| Section Number : | 1 |
| Section type : | Online |
| Mandatory or Optional: | Mandatory |
| Number of Questions: | 16 |
| Number of Questions to be attempted: | 16 |
| Section Marks: | 20 |
| Display Number Panel: | Yes |
| Group All Questions: | No |

| | |
|------------------------------|-----------|
| Sub-Section Number: | 1 |
| Sub-Section Id: | 545927419 |
| Question Shuffling Allowed : | Yes |

Question Number : 181 Question Id : 5459277050 Question Type : MCQ Option Shuffling : Yes Display Question Number : Yes
Single Line Question Option : No Option Orientation : Vertical

Correct Marks : 1 Wrong Marks : 0.25

दिए गए वाक्य में वृत्ति के रूप की पहचान कीजिए।

संभवतः कल बाद आ सकती है।

Options :

1. ✓ संभावार्थक
2. ✗ संदेहार्थक
3. ✗ आज्ञार्थक
4. ✗ निश्चयार्थक

Question Number : 181 Question Id : 5459277050 Question Type : MCQ Option Shuffling : Yes Display Question Number : Yes
Single Line Question Option : No Option Orientation : Vertical

Correct Marks : 1 Wrong Marks : 0.25

दिए गए वाक्य में वृत्ति के रूप की पहचान कीजिए।

संभवतः कल बाद आ सकती है।

Options :

1. ✓ संभावार्थक
2. ✗ संदेहार्थक
3. ✗ आज्ञार्थक
4. ✗ निश्चयार्थक

Question Number : 182 Question Id : 5459277051 Question Type : MCQ Option Shuffling : Yes Display Question Number : Yes
Single Line Question Option : No Option Orientation : Vertical

Correct Marks : 1 Wrong Marks : 0.25

दिए गए वाच्य के रूप की पहचान कीजिए।

पक्षी आकाश में उड़ रहे हैं।

Options :

1. ✘ कर्मवाच्य
2. ✔ कर्तृवाच्य
3. ✘ भाववाच्य
4. ✘ द्रव्यवाच्य

Question Number : 182 Question Id : 5459277051 Question Type : MCQ Option Shuffling : Yes Display Question Number : Yes
Single Line Question Option : No Option Orientation : Vertical

Correct Marks : 1 Wrong Marks : 0.25

दिए गए वाच्य के रूप की पहचान कीजिए।

पक्षी आकाश में उड़ रहे हैं।

Options :

1. ✘ कर्मवाच्य
2. ✔ कर्तृवाच्य
3. ✘ भाववाच्य
4. ✘ द्रव्यवाच्य

Question Number : 183 Question Id : 5459277052 Question Type : MCQ Option Shuffling : Yes Display Question Number : Yes
Single Line Question Option : No Option Orientation : Vertical

Correct Marks : 1 Wrong Marks : 0.25

दिए गए वाक्य में पक्ष के रूप की पहचान कीजिए।

मैं खाना खाता हूँ।

Options :

1. ✘ पूर्ण पक्ष
2. ✘ अपूर्ण पक्ष
3. ✘ नित्य पक्ष
4. ✔ सातत्यबोधक पक्ष

Question Number : 183 Question Id : 5459277052 Question Type : MCQ Option Shuffling : Yes Display Question Number : Yes
Single Line Question Option : No Option Orientation : Vertical

Correct Marks : 1 Wrong Marks : 0.25

दिए गए वाक्य में पक्ष के रूप की पहचान कीजिए।

मैं खाना खाता हूँ।

Options :

1. ✘ पूर्ण पक्ष
2. ✘ अपूर्ण पक्ष
3. ✘ नित्य पक्ष
4. ✔ सातत्यबोधक पक्ष

Question Number : 184 Question Id : 5459277053 Question Type : MCQ Option Shuffling : Yes Display Question Number : Yes
Single Line Question Option : No Option Orientation : Vertical

Correct Marks : 1 Wrong Marks : 0.25

दिए गए वाक्य में रेखांकित भाग किस प्रकार का पुरुष है ज्ञात कीजिए।

मोहन बहुत खाना खाता है।

Options :

1. ✘ उत्तम
2. ✘ मध्यम
3. ✔ अन्य
4. ✘ प्रथम

Question Number : 184 Question Id : 5459277053 Question Type : MCQ Option Shuffling : Yes Display Question Number : Yes
Single Line Question Option : No Option Orientation : Vertical

Correct Marks : 1 Wrong Marks : 0.25

दिए गए वाक्य में रेखांकित भाग किस प्रकार का पुरुष है ज्ञात कीजिए।

मोहन बहुत खाना खाता है।

Options :

1. ✘ उत्तम
2. ✘ मध्यम
3. ✔ अन्य
4. ✘ प्रथम

Question Number : 185 Question Id : 5459277054 Question Type : MCQ Option Shuffling : Yes Display Question Number : Yes
Single Line Question Option : No Option Orientation : Vertical

Correct Marks : 1 Wrong Marks : 0.25

दिए गए वाक्य के रूप की पहचान कीजिए।

शिक्षक ने कहा कि सभी को गृहकार्य स्वयं करना है।

Options :

1. ✔ मिश्र
2. ✘ संयुक्त
3. ✘ सरल
4. ✘ निषेधार्थक

Question Number : 185 Question Id : 5459277054 Question Type : MCQ Option Shuffling : Yes Display Question Number : Yes
Single Line Question Option : No Option Orientation : Vertical

Correct Marks : 1 Wrong Marks : 0.25

दिए गए वाक्य के रूप की पहचान कीजिए।

शिक्षक ने कहा कि सभी को गृहकार्य स्वयं करना है।

Options :

1. ✔ मिश्र
2. ✘ संयुक्त
3. ✘ सरल
4. ✘ निषेधार्थक

Question Number : 186 Question Id : 5459277055 Question Type : MCQ Option Shuffling : Yes Display Question Number : Yes
Single Line Question Option : No Option Orientation : Vertical

Correct Marks : 1 Wrong Marks : 0.25

दिए गए वाक्य का शुद्ध रूप ज्ञात कीजिए।

रानी लक्ष्मीबाई एक महान वीर थीं।

Options :

- ❌ रानी लक्ष्मीबाई एक वीर थीं
- ✅ रानी लक्ष्मीबाई एक महान वीरांगना थीं
- ❌ रानी लक्ष्मीबाई वीर थीं
- ❌ रानी लक्ष्मीबाई एक महान थीं

Question Number : 186 Question Id : 5459277055 Question Type : MCQ Option Shuffling : Yes Display Question Number : Yes
Single Line Question Option : No Option Orientation : Vertical

Correct Marks : 1 Wrong Marks : 0.25

दिए गए वाक्य का शुद्ध रूप ज्ञात कीजिए।

रानी लक्ष्मीबाई एक महान वीर थीं

Options :

- ❌ रानी लक्ष्मीबाई एक वीर थीं
- ✅ रानी लक्ष्मीबाई एक महान वीरांगना थीं
- ❌ रानी लक्ष्मीबाई वीर थीं
- ❌ रानी लक्ष्मीबाई एक महान थीं

Question Number : 187 Question Id : 5459277056 Question Type : MCQ Option Shuffling : Yes Display Question Number : Yes
Single Line Question Option : No Option Orientation : Vertical

Correct Marks : 1 Wrong Marks : 0.25

निम्नलिखित में से कौन वाक्य संयुक्त वाक्य है?

Options :

- ✅ वह बैठा था परंतु मैं जा रहा था।
- ❌ कुत्ता भौंक रहा है।
- ❌ सूर्य चमक रहा है।
- ❌ हमारे घर से निकलते ही वर्षा होगी।

Question Number : 187 Question Id : 5459277056 Question Type : MCQ Option Shuffling : Yes Display Question Number : Yes
Single Line Question Option : No Option Orientation : Vertical

Correct Marks : 1 Wrong Marks : 0.25

निम्नलिखित में से कौन वाक्य संयुक्त वाक्य है?

Options :

- ✅ वह बैठा था परंतु मैं जा रहा था।
- ❌ कुत्ता भौंक रहा है।
- ❌ सूर्य चमक रहा है।
- ❌ हमारे घर से निकलते ही वर्षा होगी।

Question Number : 188 Question Id : 5459277057 Question Type : MCQ Option Shuffling : Yes Display Question Number : Yes
Single Line Question Option : No Option Orientation : Vertical

Correct Marks : 1 Wrong Marks : 0.25

निम्नलिखित प्रश्न में, दिए गए चार विकल्पों में से, उस विकल्प का चयन करें जो दिए गए मुहावरे के अर्थ को सर्वश्रेष्ठ रूप से व्यक्त करता है।

अंधे के आगे रोये, अपनी आँखें खोयो

Options :

- ✅ मूर्ख को ज्ञान देना बेकार है।
- ❌ बदनाम करना।
- ❌ अनहोनी बात।
- ❌ हर हालात में एक जैसा ही रहना।

Question Number : 188 Question Id : 5459277057 Question Type : MCQ Option Shuffling : Yes Display Question Number : Yes
Single Line Question Option : No Option Orientation : Vertical

Correct Marks : 1 Wrong Marks : 0.25

निम्नलिखित प्रश्न में, दिए गए चार विकल्पों में से, उस विकल्प का चयन करें जो दिए गए मुहावरे के अर्थ को सर्वश्रेष्ठ रूप से व्यक्त करता है।

अंधे के आगे रोये, अपनी आँखें खोयो

Options :

1. ✓ मूर्ख को ज्ञान देना बेकार है।
2. ✗ बदनाम करना।
3. ✗ अनहोनी बाता।
4. ✗ हर हालात में एक जैसा ही रहना।

Question Number : 189 Question Id : 5459277058 Question Type : MCQ Option Shuffling : Yes Display Question Number : Yes
Single Line Question Option : No Option Orientation : Vertical

Correct Marks : 1 Wrong Marks : 0.25

निम्नलिखित प्रश्न में, दिए गए चार विकल्पों में से, उस विकल्प का चयन करें जो दिए गए मुहावरे के अर्थ को सर्वश्रेष्ठ रूप से व्यक्त करता है।

ठेस लगे बुद्धि बढ़े।

Options :

1. ✗ बिना बात का झगड़ा करना।
2. ✓ हानि सहकर मनुष्य बुद्धिमान होता है।
3. ✗ बिना बात मुसीबत मोल लेना।
4. ✗ अधिक लालच करने से हानि ही होती है।

Question Number : 189 Question Id : 5459277058 Question Type : MCQ Option Shuffling : Yes Display Question Number : Yes
Single Line Question Option : No Option Orientation : Vertical

Correct Marks : 1 Wrong Marks : 0.25

निम्नलिखित प्रश्न में, दिए गए चार विकल्पों में से, उस विकल्प का चयन करें जो दिए गए मुहावरे के अर्थ को सर्वश्रेष्ठ रूप से व्यक्त करता है।

ठेस लगे बुद्धि बढ़े।

Options :

1. ✗ बिना बात का झगड़ा करना।
2. ✓ हानि सहकर मनुष्य बुद्धिमान होता है।
3. ✗ बिना बात मुसीबत मोल लेना।
4. ✗ अधिक लालच करने से हानि ही होती है।

Question Number : 190 Question Id : 5459277059 Question Type : MCQ Option Shuffling : Yes Display Question Number : Yes
Single Line Question Option : No Option Orientation : Vertical

Correct Marks : 1 Wrong Marks : 0.25

निम्नलिखित प्रश्न में, दिए गए चार विकल्पों में से, उस विकल्प का चयन करें जो दिए गए मुहावरे के अर्थ को सर्वश्रेष्ठ रूप से व्यक्त करता है।

अक्षर से भेंट न होना।

Options :

1. ✓ अनपढ़ होना।
2. ✗ बेमेल चीजों का सम्मिश्रण होना।
3. ✗ किसी का भी बंधन न होना।
4. ✗ झूठ - मूठ का सत्कार करना।

Question Number : 190 Question Id : 5459277059 Question Type : MCQ Option Shuffling : Yes Display Question Number : Yes
Single Line Question Option : No Option Orientation : Vertical

Correct Marks : 1 Wrong Marks : 0.25

निम्नलिखित प्रश्न में, दिए गए चार विकल्पों में से, उस विकल्प का चयन करें जो दिए गए मुहावरे के अर्थ को सर्वश्रेष्ठ रूप से व्यक्त करता है।

अक्षर से भेंट न होना।

Options :

1. ✓ अनपढ़ होना
2. ✗ बेमेल चीजों का सम्मिश्रण होना
3. ✗ किसी का भी बंधन न होना
4. ✗ झूठ - मूठ का सत्कार करना

Question Number : 191 Question Id : 5459277060 Question Type : MCQ Option Shuffling : Yes Display Question Number : Yes
Single Line Question Option : No Option Orientation : Vertical

Correct Marks : 1 Wrong Marks : 0.25

दिए गए वाक्य के लिए सही लोकोक्ति का चयन कीजिए।

गुण कम, दिखावा अधिका

Options :

1. ✗ आगे नाथ न पीछे पगहा
2. ✓ थो था चना बाजे घना
3. ✗ आज का बनिया कल का सेठा
4. ✗ आग खाएगा तो अंगारे उगलेगा

Question Number : 191 Question Id : 5459277060 Question Type : MCQ Option Shuffling : Yes Display Question Number : Yes
Single Line Question Option : No Option Orientation : Vertical

Correct Marks : 1 Wrong Marks : 0.25

दिए गए वाक्य के लिए सही लोकोक्ति का चयन कीजिए।

गुण कम, दिखावा अधिका

Options :

1. ✗ आगे नाथ न पीछे पगहा
2. ✓ थो था चना बाजे घना
3. ✗ आज का बनिया कल का सेठा
4. ✗ आग खाएगा तो अंगारे उगलेगा

Question Number : 192 Question Id : 5459277061 Question Type : MCQ Option Shuffling : Yes Display Question Number : Yes
Single Line Question Option : No Option Orientation : Vertical

Correct Marks : 1 Wrong Marks : 0.25

निम्नलिखित प्रश्न में, दिए गए चार विकल्पों में से, उस विकल्प का चयन करें जो दिए गए मुहावरे के अर्थ को सर्वश्रेष्ठ रूप से व्यक्त करता है।

वश में करना

Options :

1. ✗ आँखे चार करना
2. ✗ आँखों का काटा
3. ✗ आँखों से अंगारे उगलना
4. ✓ उँगली पर नचाना

Question Number : 192 Question Id : 5459277061 Question Type : MCQ Option Shuffling : Yes Display Question Number : Yes
Single Line Question Option : No Option Orientation : Vertical

Correct Marks : 1 Wrong Marks : 0.25

निम्नलिखित प्रश्न में, दिए गए चार विकल्पों में से, उस विकल्प का चयन करें जो दिए गए मुहावरे के अर्थ को सर्वश्रेष्ठ रूप से व्यक्त करता है।

वश में करना

Options :

1. ✘ आँखें चार करना
2. ✘ आँखों का काटा
3. ✘ आँखों से अंगारे उगलना
4. ✔ उँगली पर नचाना

Question Number : 193 Question Id : 5459277062 Question Type : MCQ Option Shuffling : Yes Display Question Number : Yes
Single Line Question Option : No Option Orientation : Vertical

Correct Marks : 1 Wrong Marks : 0.25

समास से बने शब्दों के बीच किस विराम चिह्न का प्रयोग किया जाता है?

Options :

1. ✔ संयोजक
2. ✘ निर्देशक
3. ✘ लाघव
4. ✘ कोष्ठक

Question Number : 193 Question Id : 5459277062 Question Type : MCQ Option Shuffling : Yes Display Question Number : Yes
Single Line Question Option : No Option Orientation : Vertical

Correct Marks : 1 Wrong Marks : 0.25

समास से बने शब्दों के बीच किस विराम चिह्न का प्रयोग किया जाता है?

Options :

1. ✔ संयोजक
2. ✘ निर्देशक
3. ✘ लाघव
4. ✘ कोष्ठक

Question Number : 194 Question Id : 5459277063 Question Type : MCQ Option Shuffling : Yes Display Question Number : Yes
Single Line Question Option : No Option Orientation : Vertical

Correct Marks : 1 Wrong Marks : 0.25

दिए गए विराम चिह्न के रूप की पहचान कीजिए।

()

Options :

1. ✔ अल्पविराम
2. ✘ प्रश्नवाचक
3. ✘ पूर्णविराम
4. ✘ अर्द्धविराम

Question Number : 194 Question Id : 5459277063 Question Type : MCQ Option Shuffling : Yes Display Question Number : Yes
Single Line Question Option : No Option Orientation : Vertical

Correct Marks : 1 Wrong Marks : 0.25

दिए गए विराम चिह्न के रूप की पहचान कीजिए।

()

Options :

1. ✔ अल्पविराम
2. ✘ प्रश्नवाचक

3. ✘ पूर्णविराम
4. ✘ अर्द्धविराम

Question Number : 195 Question Id : 5459277064 Question Type : MCQ Option Shuffling : Yes Display Question Number : Yes
Single Line Question Option : No Option Orientation : Vertical

Correct Marks : 1 Wrong Marks : 0.25

‘वह देखने में मूर्ख लगता है लेकिन है नहीं’ में कौन सा विराम चिह्न है?

Options :

1. ✘ ;, !
2. ✘ ;, ?
3. ✔ ;, |
4. ✘ ,, !

Question Number : 195 Question Id : 5459277064 Question Type : MCQ Option Shuffling : Yes Display Question Number : Yes
Single Line Question Option : No Option Orientation : Vertical

Correct Marks : 1 Wrong Marks : 0.25

‘वह देखने में मूर्ख लगता है लेकिन है नहीं’ में कौन सा विराम चिह्न है?

Options :

1. ✘ ;, !
2. ✘ ;, ?
3. ✔ ;, |
4. ✘ ,, !

Sub-Section Number: 2
Sub-Section Id: 545927420
Question Shuffling Allowed : Yes

Question Id : 5459277065 Question Type : COMPREHENSION Sub Question Shuffling Allowed : Yes Group Comprehension
Questions : No

Question Numbers : (196 to 200)

Question Label : Comprehension

एक गद्यांश दिया गया है। गद्यांश के आधार पर पाँच प्रश्न दिए गए हैं। गद्यांश को ध्यानपूर्वक पढ़ें तथा प्रत्येक प्रश्न में चार विकल्पों में से सही विकल्प चुनें।

हरिद्वार प्रसिद्ध तीर्थ-स्थान है। गंगा के कारण इसका महत्व है। यह प्राचीन और ऐतिहासिक नगर है। यहाँ पर हर की पौड़ी पर गंगा का स्नान करने का महत्व है। ऐसा माना जाता है कि यहाँ स्नान करने से व्यक्तियों को पापों से मुक्ति मिल जाती है। हर की पौड़ी पर सदा भीड़ रहती है। दुनिया के कोने-कोने से यात्री यहाँ गंगा के दर्शन करने और स्नान करने आते हैं और मन्त्रत मांगते हैं। प्रातः 4:00 बजे ही लोग गंगा स्नान करने पहुंच जाते हैं। गंगा को मां मानकर ‘गंगा मैया की जय’ का उद्घोष करते हैं। लोग हर की पौड़ी पर बने मंदिरों में जाते हैं। किनारे पर बने बाजार में जाकर प्रसाद, माला आदी खरीदते हैं। शाम को गंगा की आरती का भव्य दृश्य देखकर मन भक्ति भाव से ओतप्रोत हो जाता है। आरती के समय लोग गंगा किनारे खड़े हो जाते हैं। चारों ओर शंख और घंटियों की आवाजों के बीच गंगा की स्तुति की जाती है। प्रत्येक व्यक्ति को एक बार हर की पौड़ी पर जाकर गंगा स्नान अवश्य करना चाहिए और शाम की आरती में शामिल होना चाहिए।

Sub questions

Question Number : 196 Question Id : 5459277066 Question Type : MCQ Option Shuffling : Yes Display Question Number : Yes
Single Line Question Option : No Option Orientation : Vertical

Correct Marks : 1 Wrong Marks : 0.25

प्रसिद्ध तीर्थ स्थान कौन सा है?

Options :

1. ✘ शिमला
2. ✔ हरिद्वार
3. ✘ कलकत्ता

4. ✘ मुंबई

Question Number : 197 Question Id : 5459277067 Question Type : MCQ Option Shuffling : Yes Display Question Number : Yes
Single Line Question Option : No Option Orientation : Vertical

Correct Marks : 1 Wrong Marks : 0.25

गंगा में स्नान करने वालों को क्या मिलती है?

Options :

1. ✘ मैल से मुक्ति
2. ✘ पुण्य से मुक्ति
3. ✔ पापों से मुक्ति
4. ✘ जीवन से मुक्ति

Question Number : 198 Question Id : 5459277068 Question Type : MCQ Option Shuffling : Yes Display Question Number : Yes
Single Line Question Option : No Option Orientation : Vertical

Correct Marks : 1 Wrong Marks : 0.25

उपर्युक्त गद्यांश का शीर्षक क्या है?

Options :

1. ✘ तीर्थ - स्थान गंगा तट
2. ✔ तीर्थ स्थान हरिद्वार
3. ✘ तीर्थ - स्थान मोक्ष द्वार
4. ✘ हर की पौड़ी - तीर्थ स्थान

Question Number : 199 Question Id : 5459277069 Question Type : MCQ Option Shuffling : Yes Display Question Number : Yes
Single Line Question Option : No Option Orientation : Vertical

Correct Marks : 1 Wrong Marks : 0.25

भक्ति भाव से ओतप्रोत हो जाना का क्या अर्थ है?

Options :

1. ✘ पेट भर कर खाना
2. ✘ भक्ति में रोना
3. ✔ भक्ति भाव से भर जाना
4. ✘ शक्ति में भक्ति का होना

Question Number : 200 Question Id : 5459277070 Question Type : MCQ Option Shuffling : Yes Display Question Number : Yes
Single Line Question Option : No Option Orientation : Vertical

Correct Marks : 1 Wrong Marks : 0.25

प्रत्येक व्यक्ति को एक बार जरूर क्या करना चाहिए?

Options :

1. ✘ आरती में शामिल होना चाहिए
2. ✘ गंगा किनारे खड़ा होना चाहिए
3. ✘ बाजार से माला खरीदनी चाहिए
4. ✔ एक बार गंगा स्नान करना चाहिए

Question Id : 5459277065 Question Type : COMPREHENSION Sub Question Shuffling Allowed : Yes Group Comprehension
Questions : No

Question Numbers : (196 to 200)

Question Label : Comprehension

एक गद्यांश दिया गया है। गद्यांश के आधार पर पाँच प्रश्न दिए गए हैं। गद्यांश को ध्यानपूर्वक पढ़ें तथा प्रत्येक प्रश्न में चार विकल्पों में से सही विकल्प चुनें।

हरिद्वार प्रसिद्ध तीर्थ-स्थान है। गंगा के कारण इसका महत्व है। यह प्राचीन और ऐतिहासिक नगर है। यहाँ पर हर की पौड़ी पर गंगा का स्नान करने का महत्व है। ऐसा माना जाता है कि यहाँ स्नान करने से व्यक्तियों को पापों से मुक्ति मिल जाती है। हर की पौड़ी पर सदा भीड़ रहती है। दुनिया के कोने-कोने से यात्री यहाँ गंगा के दर्शन करने और स्नान करने आते हैं और मन्त्रत मांगते हैं। प्रातः 4:00 बजे ही लोग गंगा स्नान करने पहुंच जाते हैं। गंगा को मां मानकर 'गंगा मैया की जय' का उद्घोष करते हैं। लोग हर की पौड़ी पर बने मंदिरों में जाते हैं। किनारे पर बने बाजार में जाकर प्रसाद, माला आदी खरीदते हैं। शाम को गंगा की आरती का भव्य दृश्य देखकर मन भक्ति भाव से ओतप्रोत हो जाता है। आरती के समय लोग गंगा किनारे खड़े हो जाते हैं। चारों ओर शंख और घंटियों की आवाजों के बीच गंगा की स्तुति की जाती है। प्रत्येक व्यक्ति को एक बार हर की पौड़ी पर जाकर गंगा स्नान अवश्य करना चाहिए और शाम की आरती में शामिल होना चाहिए।

Sub questions

Question Number : 196 Question Id : 5459277066 Question Type : MCQ Option Shuffling : Yes Display Question Number : Yes
Single Line Question Option : No Option Orientation : Vertical

Correct Marks : 1 Wrong Marks : 0.25

प्रसिद्ध तीर्थ स्थान कौन सा है?

Options :

1. ✘ शिमला
2. ✔ हरिद्वार
3. ✘ कलकत्ता
4. ✘ मुंबई

Question Number : 197 Question Id : 5459277067 Question Type : MCQ Option Shuffling : Yes Display Question Number : Yes
Single Line Question Option : No Option Orientation : Vertical

Correct Marks : 1 Wrong Marks : 0.25

गंगा में स्नान करने वालों को क्या मिलती है?

Options :

1. ✘ मूल से मुक्ति
2. ✘ पुण्य से मुक्ति
3. ✔ पापों से मुक्ति
4. ✘ जीवन से मुक्ति

Question Number : 198 Question Id : 5459277068 Question Type : MCQ Option Shuffling : Yes Display Question Number : Yes
Single Line Question Option : No Option Orientation : Vertical

Correct Marks : 1 Wrong Marks : 0.25

उपर्युक्त गद्यांश का शीर्षक क्या है?

Options :

1. ✘ तीर्थ - स्थान गंगा तट
2. ✔ तीर्थ स्थान हरिद्वार
3. ✘ तीर्थ - स्थान मोक्ष द्वार
4. ✘ हर की पौड़ी - तीर्थ स्थान

Question Number : 199 Question Id : 5459277069 Question Type : MCQ Option Shuffling : Yes Display Question Number : Yes
Single Line Question Option : No Option Orientation : Vertical

Correct Marks : 1 Wrong Marks : 0.25

भक्ति भाव से ओतप्रोत हो जाना का क्या अर्थ है?

Options :

1. ✘ पेट भर कर खाना
2. ✘ भक्ति में रोना
3. ✔ भक्ति भाव से भर जाना
4. ✘ शक्ति में भक्ति का होना

Question Number : 200 Question Id : 5459277070 Question Type : MCQ Option Shuffling : Yes Display Question Number : Yes
Single Line Question Option : No Option Orientation : Vertical

Correct Marks : 1 Wrong Marks : 0.25

प्रत्येक व्यक्ति को एक बार जरूर क्या करना चाहिए?

Options :

1. ✘ आरती में शामिल होना चाहिए
2. ✘ गंगा किनारे खड़ा होना चाहिए
3. ✘ बाजार से माला खरीदनी चाहिए
4. ✔ एक बार गंगा स्नान करना चाहिए