

## Education Consultant India Ltd.

### Notations :

- 1.Options shown in green color and with ✓ icon are correct.
- 2.Options shown in red color and with ✖ icon are incorrect.

<b>Question Paper Name:</b>	Lower Division Clerk 23rd August 2019 S2
<b>Subject Name:</b>	LOWER DIVISION CLERK
<b>Creation Date:</b>	2019-08-23 16:13:51
<b>Duration:</b>	120
<b>Total Marks:</b>	200
<b>Display Marks:</b>	Yes
<b>Share Answer Key With Delivery Engine:</b>	No
<b>Actual Answer Key:</b>	Yes
<b>Calculator:</b>	None
<b>Magnifying Glass Required?:</b>	No
<b>Ruler Required?:</b>	No
<b>Eraser Required?:</b>	No
<b>Scratch Pad Required?:</b>	No
<b>Rough Sketch/Notepad Required?:</b>	No
<b>Protractor Required?:</b>	No
<b>Show Watermark on Console?:</b>	Yes
<b>Highlighter:</b>	No
<b>Auto Save on Console?:</b>	No

### Mental Ability 1

<b>Group Number :</b>	1
<b>Group Id :</b>	545927621
<b>Group Maximum Duration :</b>	0
<b>Group Minimum Duration :</b>	0
<b>Revisit allowed for view? :</b>	No
<b>Revisit allowed for edit? :</b>	No
<b>Break time:</b>	0
<b>Group Marks:</b>	20
<b>Revisit allowed for group Instructions? :</b>	Yes
<b>Maximum Instruction Time:</b>	0
<b>Minimum Instruction Time:</b>	0

### Mental Ability 1

<b>Section Id :</b>	545927621
<b>Section Number :</b>	1
<b>Section type :</b>	Online
<b>Mandatory or Optional:</b>	Mandatory
<b>Number of Questions:</b>	20
<b>Number of Questions to be attempted:</b>	20
<b>Section Marks:</b>	20

Display Number Panel: Yes  
Group All Questions: No

Sub-Section Number: 1  
Sub-Section Id: 545927745  
Question Shuffling Allowed : Yes

Question Number : 1 Question Id : 54592712525 Question Type : MCQ Option Shuffling : Yes Display Question Number : Yes  
Single Line Question Option : No Option Orientation : Vertical

Correct Marks : 1 Wrong Marks : 0.25

A series is given with one incorrect term. Select the wrong term from the given alternatives.

WYCD, TUXX, QRSR, NMNL

Options :

1. ✘ WYCD
2. ✘ TUXX
3. ✔ QRSR
4. ✘ NMNL

Question Number : 1 Question Id : 54592712525 Question Type : MCQ Option Shuffling : Yes Display Question Number : Yes  
Single Line Question Option : No Option Orientation : Vertical

Correct Marks : 1 Wrong Marks : 0.25

एक अनुक्रम दिया गया है, जिसमें से एक पद गलत है। दिए गए विकल्पों में से उस गलत पद को चुनिए।

WYCD, TUXX, QRSR, NMNL

Options :

1. ✘ WYCD
2. ✘ TUXX
3. ✔ QRSR
4. ✘ NMNL

Question Number : 2 Question Id : 54592712526 Question Type : MCQ Option Shuffling : Yes Display Question Number : Yes  
Single Line Question Option : No Option Orientation : Vertical

Correct Marks : 1 Wrong Marks : 0.25

Arrange the given words in the sequence in which they occur in the English dictionary.

1. Federate
2. Federals
3. Federary
4. Fedexing
5. Fedayeen

Options :

1. ✔ 52314
2. ✘ 52134
3. ✘ 52341
4. ✘ 51342

Question Number : 2 Question Id : 54592712526 Question Type : MCQ Option Shuffling : Yes Display Question Number : Yes  
Single Line Question Option : No Option Orientation : Vertical

Correct Marks : 1 Wrong Marks : 0.25

निम्नलिखित शब्दों को अंग्रेजी शब्दकोश में आने वाले क्रम के अनुसार लिखें

1. Federate
2. Federals
3. Federary
4. Fedexing
5. Fedayeen

Options :

1. ✓ 52314
2. ✗ 52134
3. ✗ 52341
4. ✗ 51342

Question Number : 3 Question Id : 54592712527 Question Type : MCQ Option Shuffling : Yes Display Question Number : Yes  
Single Line Question Option : No Option Orientation : Vertical

Correct Marks : 1 Wrong Marks : 0.25

A series is given with one wrong term. Select the wrong term from the given alternatives.

AH, DK, GN, JR

Options :

1. ✗ AH
2. ✗ DK
3. ✗ GN
4. ✓ JR

Question Number : 3 Question Id : 54592712527 Question Type : MCQ Option Shuffling : Yes Display Question Number : Yes  
Single Line Question Option : No Option Orientation : Vertical

Correct Marks : 1 Wrong Marks : 0.25

एक अनुक्रम दिया गया है, जिसमें से एक पद गलत है। दिए गए विकल्पों में से उस गलत पद को चुनिए।

AH, DK, GN, JR

Options :

1. ✗ AH
2. ✗ DK
3. ✗ GN
4. ✓ JR

Question Number : 4 Question Id : 54592712528 Question Type : MCQ Option Shuffling : Yes Display Question Number : Yes  
Single Line Question Option : No Option Orientation : Vertical

Correct Marks : 1 Wrong Marks : 0.25

In the following question, select the odd letter /letters from the given alternatives.

Options :

1. ✓ BDG
2. ✗ ADG
3. ✗ PSV
4. ✗ ORU

Question Number : 4 Question Id : 54592712528 Question Type : MCQ Option Shuffling : Yes Display Question Number : Yes  
Single Line Question Option : No Option Orientation : Vertical

Correct Marks : 1 Wrong Marks : 0.25

निम्नलिखित प्रश्न में दिए गए विकल्पों में से विषम अक्षर/अक्षरों को चुनिए।

Options :

- ✓ BDG
- ✗ ADG
- ✗ PSV
- ✗ ORU

Question Number : 5 Question Id : 54592712529 Question Type : MCQ Option Shuffling : Yes Display Question Number : Yes  
Single Line Question Option : No Option Orientation : Vertical

Correct Marks : 1 Wrong Marks : 0.25

In the following question, select the odd word from the given alternatives.

Options :

- ✗ Tiger
- ✓ Cow
- ✗ Lion
- ✗ Wolf

Question Number : 5 Question Id : 54592712529 Question Type : MCQ Option Shuffling : Yes Display Question Number : Yes  
Single Line Question Option : No Option Orientation : Vertical

Correct Marks : 1 Wrong Marks : 0.25

निम्नलिखित प्रश्न में दिए गए विकल्पों में से विषम शब्द को चुनिए।

Options :

- ✗ बाघ
- ✓ गाय
- ✗ सिंह
- ✗ भेड़िया

Question Number : 6 Question Id : 54592712530 Question Type : MCQ Option Shuffling : Yes Display Question Number : Yes  
Single Line Question Option : No Option Orientation : Vertical

Correct Marks : 1 Wrong Marks : 0.25

In the following question, four letter pairs are given. The letters on left side of (:) is related to the letters on the right side of (:) with some Logic/Rule/Relation. Three are similar on basis of same Logic/Rule/Relation. Select the odd one from the given alternatives.

Options :

- ✗ ABCD : FGHI
- ✗ NPRT : SUWY
- ✓ OQRT : TUWY
- ✗ KLMN : PQRS

Question Number : 6 Question Id : 54592712530 Question Type : MCQ Option Shuffling : Yes Display Question Number : Yes  
Single Line Question Option : No Option Orientation : Vertical

Correct Marks : 1 Wrong Marks : 0.25

नीचे दिए गए प्रश्न में, चार अक्षर युग्म दिए गए हैं। (:) के बायीं ओर दिये गये अक्षर (:) के दायीं ओर दिये गये अक्षर से किसी तर्क/नियम/संबंध से संबंधित है। तीन उसी एक तर्क/नियम/संबंध के आधार पर समान हैं। दिए गए विकल्पों में से विषम को चुनिए।

Options :

- ✗ ABCD : FGHI
- ✗ NPRT : SUWY
- ✓ OQRT : TUWY
- ✗ KLMN : PQRS

Question Number : 7 Question Id : 54592712531 Question Type : MCQ Option Shuffling : Yes Display Question Number : Yes  
Single Line Question Option : No Option Orientation : Vertical

Correct Marks : 1 Wrong Marks : 0.25

In the following question, select the related word pair from the given alternatives.

Ganga : River :: ?

Options :

- ✓ Pen : Stationery
- ✗ Figure : Rectangle
- ✗ Book : Reading
- ✗ Work : Pencil

Question Number : 7 Question Id : 54592712531 Question Type : MCQ Option Shuffling : Yes Display Question Number : Yes  
Single Line Question Option : No Option Orientation : Vertical

Correct Marks : 1 Wrong Marks : 0.25

निम्नलिखित प्रश्न में दिए गए विकल्पों में से संबंधित शब्द युग्म को चुनिए।

गंगा : नदी :: ?

Options :

- ✓ कलम : लेखन-सामग्री
- ✗ आकृति : आयत
- ✗ किताब : पढ़ना
- ✗ कार्य : पेंसिल

Question Number : 8 Question Id : 54592712532 Question Type : MCQ Option Shuffling : Yes Display Question Number : Yes  
Single Line Question Option : No Option Orientation : Vertical

Correct Marks : 1 Wrong Marks : 0.25

In the following question, select the related word from the given alternatives.

Needle : Clock :: Cockpit : ?

Options :

- ✓ Aeoroplane
- ✗ Road
- ✗ Driver
- ✗ Passengers

Question Number : 8 Question Id : 54592712532 Question Type : MCQ Option Shuffling : Yes Display Question Number : Yes  
Single Line Question Option : No Option Orientation : Vertical

Correct Marks : 1 Wrong Marks : 0.25

निम्नलिखित प्रश्न में दिए गए विकल्पों में से संबंधित शब्द को चुनिए।

सूई : घड़ी :: कॉकपिट : ?

Options :

- ✓ हवाई जहाज
- ✗ सड़क
- ✗ ड्राइवर
- ✗ यात्री

Question Number : 9 Question Id : 54592712533 Question Type : MCQ Option Shuffling : Yes Display Question Number : Yes  
Single Line Question Option : No Option Orientation : Vertical

Correct Marks : 1 Wrong Marks : 0.25

In the following question, select the related letter pair from the given alternatives.

ABKL : FGPO :: ?

Options :

1. ✓ GHLM : LMQR
2. ✗ PRST : TSAB
3. ✗ HIJK : ABCD
4. ✗ RSAB : WXNO

Question Number : 9 Question Id : 54592712533 Question Type : MCQ Option Shuffling : Yes Display Question Number : Yes  
Single Line Question Option : No Option Orientation : Vertical

Correct Marks : 1 Wrong Marks : 0.25

निम्नलिखित प्रश्न में दिए गए विकल्पों में से संबंधित अक्षर युग्म को चुनिए।

ABKL : FGPO :: ?

Options :

1. ✓ GHLM : LMQR
2. ✗ PRST : TSAB
3. ✗ HIJK : ABCD
4. ✗ RSAB : WXNO

Question Number : 10 Question Id : 54592712534 Question Type : MCQ Option Shuffling : Yes Display Question Number : Yes  
Single Line Question Option : No Option Orientation : Vertical

Correct Marks : 1 Wrong Marks : 0.25

In a certain code language, 'DOGS' is called as 'BARK', 'BARK' is called as 'END', 'END' is called as 'BONE', 'BONE' is called as 'SOFT', 'SOFT' is called as 'EYES'. What do dogs eat?

Options :

1. ✗ BONE
2. ✓ SOFT
3. ✗ END
4. ✗ EYES

Question Number : 10 Question Id : 54592712534 Question Type : MCQ Option Shuffling : Yes Display Question Number : Yes  
Single Line Question Option : No Option Orientation : Vertical

Correct Marks : 1 Wrong Marks : 0.25

एक विशिष्ट कोड भाषा में, 'कुत्ते' को 'भौंकना' कहा जाता है, 'भौंकना' को 'समाप्त' कहा जाता है, 'समाप्त' को 'हड्डी' कहा जाता है, 'हड्डी' को 'मुलायम' कहा जाता है, 'मुलायम' को 'आंखें' कहा जाता है। कुत्ते क्या खाते हैं?

Options :

1. ✗ हड्डी
2. ✓ मुलायम
3. ✗ समाप्त
4. ✗ आंखें

Question Number : 11 Question Id : 54592712535 Question Type : MCQ Option Shuffling : Yes Display Question Number : Yes  
Single Line Question Option : No Option Orientation : Vertical

Correct Marks : 1 Wrong Marks : 0.25

In a certain code language, 'ENVY' is written as '60', 'FACE' is written as '9'. What is the code for 'FOUL' in that code language?

Options :

1. ✗ 43

2. ✖ 40
3. ✔ 48
4. ✖ 46

Question Number : 11 Question Id : 54592712535 Question Type : MCQ Option Shuffling : Yes Display Question Number : Yes Single Line Question Option : No Option Orientation : Vertical

Correct Marks : 1 Wrong Marks : 0.25

एक विशिष्ट कोड भाषा में, 'ENVY' को '60' लिखा जाता है, 'FACE' को '9' लिखा जाता है। इस कोड भाषा में 'FOUL' का कोड क्या है?

Options :

1. ✖ 43
2. ✖ 40
3. ✔ 48
4. ✖ 46

Question Number : 12 Question Id : 54592712536 Question Type : MCQ Option Shuffling : Yes Display Question Number : Yes Single Line Question Option : No Option Orientation : Vertical

Correct Marks : 1 Wrong Marks : 0.25

In a certain code language, 'Cake is black' is written as '4 5 7', 'Black are colour' is written as '3 2 4', 'Colour are simple' is written as '3 8 2'. What is the code for 'cake' in that code language?

Options :

1. ✖ 4
2. ✖ 5
3. ✖ 7
4. ✔ 5 or 7

Question Number : 12 Question Id : 54592712536 Question Type : MCQ Option Shuffling : Yes Display Question Number : Yes Single Line Question Option : No Option Orientation : Vertical

Correct Marks : 1 Wrong Marks : 0.25

एक विशिष्ट कोड भाषा में, 'Cake is black' को '4 5 7' लिखा जाता है, 'Black are colour' को '3 2 4' लिखा जाता है, 'Colour are simple' को '3 8 2' लिखा जाता है। इस कोड भाषा में 'केक' का कोड क्या है?

Options :

1. ✖ 4
2. ✖ 5
3. ✖ 7
4. ✔ 5 या 7

Question Number : 13 Question Id : 54592712537 Question Type : MCQ Option Shuffling : Yes Display Question Number : Yes Single Line Question Option : No Option Orientation : Vertical

Correct Marks : 1 Wrong Marks : 0.25

Shreya, Mukesh, Sahil, Kishore and Richa are five friends. Shreya is younger than Sahil. Mukesh is younger than Shreya but elder than Kishore. Richa is the youngest. Who is the second youngest among these five friends?

Options :

1. ✔ Kishore
2. ✖ Shreya
3. ✖ Mukesh
4. ✖ Sahil

Question Number : 13 Question Id : 54592712537 Question Type : MCQ Option Shuffling : Yes Display Question Number : Yes Single Line Question Option : No Option Orientation : Vertical

Correct Marks : 1 Wrong Marks : 0.25

श्रेया, मुकेश, साहिल, किशोर और ऋचा पाँच दोस्त हैं। श्रेया, साहिल से छोटी है। मुकेश, श्रेया से छोटा है लेकिन किशोर से बड़ा है। ऋचा सबसे छोटी है। इन पाँच दोस्तों में से दूसरा सबसे छोटा कौन है?

Options :

- ✓ किशोर
- ✗ श्रेया
- ✗ मुकेश
- ✗ साहिल

Question Number : 14 Question Id : 54592712538 Question Type : MCQ Option Shuffling : Yes Display Question Number : Yes Single Line Question Option : No Option Orientation : Vertical

Correct Marks : 1 Wrong Marks : 0.25

A weighs twice as much as B. B weighs three and half times as much as C. C weighs half as much as D. D weighs half as much as E. Which of the following represents the ascending order of weights?

Options :

- ✗ C, E, A, B, D,
- ✓ C, D, B, E, A,
- ✗ C, A, D, B, E
- ✗ C, D, E, A, B

Question Number : 14 Question Id : 54592712538 Question Type : MCQ Option Shuffling : Yes Display Question Number : Yes Single Line Question Option : No Option Orientation : Vertical

Correct Marks : 1 Wrong Marks : 0.25

A का भार B का दोगुना है। B का भार C का साढ़े तीन गुना है। C का भार D का आधा है। D का भार E का आधा है। निम्नलिखित में से कौन सा भार बढ़ते क्रम को दर्शाता है?

Options :

- ✗ C, E, A, B, D,
- ✓ C, D, B, E, A,
- ✗ C, A, D, B, E
- ✗ C, D, E, A, B

Question Number : 15 Question Id : 54592712539 Question Type : MCQ Option Shuffling : Yes Display Question Number : Yes Single Line Question Option : No Option Orientation : Vertical

Correct Marks : 1 Wrong Marks : 0.25

B is the sister of C. A is brother of B. E is the sister of D. D is the son of B. How is E related to A?

Options :

- ✓ Niece
- ✗ Nephew
- ✗ Sister
- ✗ Daughter

Question Number : 15 Question Id : 54592712539 Question Type : MCQ Option Shuffling : Yes Display Question Number : Yes Single Line Question Option : No Option Orientation : Vertical

Correct Marks : 1 Wrong Marks : 0.25

B, C की बहन है। A, B का भाई है। E, D की बहन है। D, B का पुत्र है। E, A से कैसे संबंधित है?

Options :

- ✓ भांजी
- ✗ भांजा
- ✗ बहन



4. ✖ पुत्री

Question Number : 16 Question Id : 54592712540 Question Type : MCQ Option Shuffling : Yes Display Question Number : Yes  
Single Line Question Option : No Option Orientation : Vertical

Correct Marks : 1 Wrong Marks : 0.25

Six persons Y1, Y2, Y3, Y4, Y5 and Y6 are sitting around a circular table facing towards the centre. Y2 is third to left of Y5. Y3 is the third to the right of Y1. Only Y6 is sitting between Y1 and Y5. Y4 is third to the left of Y6. Y6 is not to the immediate left of Y5. Which of the following statement(s) is/are correct?

- I. Y5 is sitting to the immediate right of Y6.
- II. Y4 is second to the left of Y5.
- III. Y2 is sitting to the immediate right of Y1.
- IV. Y1 is sitting to the immediate left of Y6.

Options :

- 1. ✖ I and II
- 2. ✓ II and III
- 3. ✖ III and IV
- 4. ✖ Only II

Question Number : 16 Question Id : 54592712540 Question Type : MCQ Option Shuffling : Yes Display Question Number : Yes  
Single Line Question Option : No Option Orientation : Vertical

Correct Marks : 1 Wrong Marks : 0.25

छः व्यक्ति Y1, Y2, Y3, Y4, Y5 और Y6 केन्द्र की ओर मुख करके एक वृत्ताकार मेज के इर्द - गिर्द बैठे हैं। Y2, Y5 के बायीं ओर तीसरा है। Y3, Y1 के दायीं ओर तीसरा है। Y1 और Y5 के बीच में केवल Y6 बैठा है। Y4, Y6 के बायीं ओर तीसरा है। Y6, Y5 के तुरंत बायीं ओर नहीं है। निम्नलिखित में से कौन सा/से कथन सही है/हैं?

- I. Y5, Y6 के तुरंत दायीं ओर बैठा है।
- II. Y4, Y5 के बायीं ओर दूसरा है।
- III. Y2, Y1 के तुरंत दायीं ओर बैठा है।
- IV. Y1, Y6 के तुरंत बायीं ओर बैठा है।

Options :

- 1. ✖ I और II
- 2. ✓ II और III
- 3. ✖ III और IV
- 4. ✖ केवल II

Question Number : 17 Question Id : 54592712541 Question Type : MCQ Option Shuffling : Yes Display Question Number : Yes  
Single Line Question Option : No Option Orientation : Vertical

Correct Marks : 1 Wrong Marks : 0.25

सात व्यक्तियों के एक समूह में, S3 सबसे छोटा है जबकि S2 सबसे लम्बा है। S7, S5 से लम्बा है लेकिन S6 से छोटा है। समूह में दूसरा सबसे लम्बा व्यक्ति S6 है। S5, S3 से लम्बा है लेकिन S1 से छोटा है। समूह में दूसरा सबसे छोटा व्यक्ति S4 है। S1, S7 से लम्बा है। कितने व्यक्ति S4 से लम्बे हैं?

Options :

- 1. ✖ 2
- 2. ✖ 3
- 3. ✖ 4
- 4. ✓ 5

Question Number : 17 Question Id : 54592712541 Question Type : MCQ Option Shuffling : Yes Display Question Number : Yes  
Single Line Question Option : No Option Orientation : Vertical

Correct Marks : 1 Wrong Marks : 0.25

In a group of seven persons, S3 is the shortest while S2 is the tallest. S7 is taller than S5 but shorter than S6. S6 is the second tallest person in the group. S5 is taller than S3 but shorter than S1. S4 is second shortest person in the group. S1 is taller than S7. How many persons are taller than S4?

Options :

1. ✖ 2
2. ✖ 3
3. ✖ 4
4. ✔ 5

Question Number : 18 Question Id : 54592712542 Question Type : MCQ Option Shuffling : Yes Display Question Number : Yes  
Single Line Question Option : No Option Orientation : Vertical

Correct Marks : 1 Wrong Marks : 0.25

In the following question below are given some statements followed by some conclusions based on those statements. Taking the given statements to be true even if they seem to be at variance from commonly known facts, read all the conclusions and then decide which of the given conclusions. Logically follow/s the given statements.

Statements:

- I. All pens are tables.
- II. Some pens are chairs.

Conclusions:

- I. Some tables are pens.
- II. Some chairs are tables.

Options :

1. ✖ Only conclusion I follows
2. ✖ Only conclusion II follows
3. ✔ Both conclusion I and II follow
4. ✖ Neither conclusion follows

Question Number : 18 Question Id : 54592712542 Question Type : MCQ Option Shuffling : Yes Display Question Number : Yes  
Single Line Question Option : No Option Orientation : Vertical

Correct Marks : 1 Wrong Marks : 0.25

नीचे दिए गए प्रश्न में कुछ कथन और उनके बाद उन कथनों पर आधारित कुछ निष्कर्ष दिए गए हैं। दिए गए कथनों को सही माने, चाहे उनमें सामान्य ज्ञात तथ्यों से भिन्नता हो। सभी निष्कर्ष पढ़ें और फिर निर्धारित करें कि दिए गए कौन से निष्कर्ष, दिए गए कथनों के आधार पर युक्तिसंगत हैं।

कथन:

- I. सभी कलम मेज हैं।
- II. कुछ कलम कुर्सियाँ हैं।

निष्कर्ष:

- I. कुछ मेज कलम हैं।
- II. कुछ कुर्सियाँ मेज हैं।

Options :

1. ✖ केवल निष्कर्ष I अनुसरण करता है
2. ✖ केवल निष्कर्ष II अनुसरण करता है
3. ✔ दोनों निष्कर्ष I तथा II अनुसरण करते हैं
4. ✖ कोई भी निष्कर्ष अनुसरण नहीं करता है

Question Number : 19 Question Id : 54592712543 Question Type : MCQ Option Shuffling : Yes Display Question Number : Yes  
Single Line Question Option : No Option Orientation : Vertical

Correct Marks : 1 Wrong Marks : 0.25

In the following question below are given some statements followed by some conclusions based on those statements. Taking the given statements to be true even if they seem to be at variance from commonly known facts, read all the conclusions and then decide which of the given conclusions. Logically follow/s the given statements.

Statements:

- I. No J is Q.
- II. All Q are M.
- III. No M is L.

Conclusions:

- I. No L is Q.
- II. Some Q are L.
- III. No L is M.

Options :

1.  Both conclusion I and III follows
2.  Only conclusion III follows
3.  Only conclusion II follows
4.  Both conclusion II and III follows

Question Number : 19 Question Id : 54592712543 Question Type : MCQ Option Shuffling : Yes Display Question Number : Yes  
Single Line Question Option : No Option Orientation : Vertical

Correct Marks : 1 Wrong Marks : 0.25

नीचे दिए गए प्रश्न में कुछ कथन और उनके बाद उन कथनों पर आधारित कुछ निष्कर्ष दिए गए हैं। दिए गए कथनों को सही माने, चाहे उनमें सामान्य ज्ञात तथ्यों से भिन्नता हो। सभी निष्कर्ष पढ़ें और फिर निर्धारित करें कि दिए गए कौन से निष्कर्ष, दिए गए कथनों के आधार पर युक्तिसंगत हैं।

कथन:

- I. कोई J, Q नहीं है।
- II. सभी Q, M हैं।
- III. कोई M, L नहीं है।

निष्कर्ष:

- I. कोई L, Q नहीं है।
- II. कुछ Q, L हैं।
- III. कोई L, M नहीं है।

Options :

1.  दोनों निष्कर्ष I तथा III अनुसरण करते हैं।
2.  केवल निष्कर्ष III अनुसरण करता है।
3.  केवल निष्कर्ष II अनुसरण करता है।
4.  दोनों निष्कर्ष II तथा III अनुसरण करते हैं।

Question Number : 20 Question Id : 54592712544 Question Type : MCQ Option Shuffling : Yes Display Question Number : Yes  
Single Line Question Option : No Option Orientation : Vertical

Correct Marks : 1 Wrong Marks : 0.25

If 'W' means '+', 'X' means '×', 'Y' means '+' and 'Z' means '-', then  $6 Y 4 X 72 W 18 X 27 W 9 Y 4 Z 18 = ?$

Options :

1.  48
2.  56
3.  40
4.  60

Question Number : 20 Question Id : 54592712544 Question Type : MCQ Option Shuffling : Yes Display Question Number : Yes  
Single Line Question Option : No Option Orientation : Vertical

Correct Marks : 1 Wrong Marks : 0.25

यदि 'W' का अर्थ '+', 'X' का अर्थ '×', 'Y' का अर्थ '+' तथा 'Z' का अर्थ '-' हो, तो  $6 Y 4 X 72 W 18 X 27 W 9 Y 4 Z 18 = ?$

Options :

1. ✘ 48
2. ✘ 56
3. ✔ 40
4. ✘ 60

#### Mental Ability2

Group Number :	2
Group Id :	545927622
Group Maximum Duration :	0
Group Minimum Duration :	0
Revisit allowed for view? :	No
Revisit allowed for edit? :	No
Break time:	0
Group Marks:	20
Revisit allowed for group Instructions? :	Yes
Maximum Instruction Time:	0
Minimum Instruction Time:	0

#### Mental Ability2

Section Id :	545927622
Section Number :	1
Section type :	Online
Mandatory or Optional:	Mandatory
Number of Questions:	20
Number of Questions to be attempted:	20
Section Marks:	20
Display Number Panel:	Yes
Group All Questions:	No

Sub-Section Number:	1
Sub-Section Id:	545927746
Question Shuffling Allowed :	Yes

Question Number : 21 Question Id : 54592712545 Question Type : MCQ Option Shuffling : Yes Display Question Number : Yes  
Single Line Question Option : No Option Orientation : Vertical

Correct Marks : 1 Wrong Marks : 0.25

If 'A' means '+', 'B' means '×', 'C' means '+' and 'D' means '-', then  $45 A 15 C 153 A 17 B 3 C 7 D 19 = ?$

Options :

1. ✘ 16
2. ✔ 18
3. ✘ 28
4. ✘ 36

Question Number : 21 Question Id : 54592712545 Question Type : MCQ Option Shuffling : Yes Display Question Number : Yes  
Single Line Question Option : No Option Orientation : Vertical

Correct Marks : 1 Wrong Marks : 0.25

यदि 'A' का अर्थ '+', 'B' का अर्थ '×', 'C' का अर्थ '+' तथा 'D' का अर्थ '-' हो, तो  $45 A 15 C 153 A 17 B 3 C 7 D 19 = ?$

Options :

1. ✘ 16
2. ✔ 18
3. ✘ 28
4. ✘ 36

Question Number : 22 Question Id : 54592712546 Question Type : MCQ Option Shuffling : Yes Display Question Number : Yes  
Single Line Question Option : No Option Orientation : Vertical

Correct Marks : 1 Wrong Marks : 0.25

In the following question, select the related number from the given alternatives.

$347 : 2206 :: 568 : ?$

Options :

1. ✘ 3369
2. ✔ 4619
3. ✘ 4721
4. ✘ 4989

Question Number : 22 Question Id : 54592712546 Question Type : MCQ Option Shuffling : Yes Display Question Number : Yes  
Single Line Question Option : No Option Orientation : Vertical

Correct Marks : 1 Wrong Marks : 0.25

निम्नलिखित प्रश्न में दिए गए विकल्पों में से संबंधित संख्या को चुनिए

$347 : 2206 :: 568 : ?$

Options :

1. ✘ 3369
2. ✔ 4619
3. ✘ 4721
4. ✘ 4989

Question Number : 23 Question Id : 54592712547 Question Type : MCQ Option Shuffling : Yes Display Question Number : Yes  
Single Line Question Option : No Option Orientation : Vertical

Correct Marks : 1 Wrong Marks : 0.25

In the following question, select the related number from the given alternatives.

$987 : 168 :: 837 : ?$

Options :

1. ✘ 96
2. ✘ 110
3. ✘ 225
4. ✔ 101

Question Number : 23 Question Id : 54592712547 Question Type : MCQ Option Shuffling : Yes Display Question Number : Yes  
Single Line Question Option : No Option Orientation : Vertical

Correct Marks : 1 Wrong Marks : 0.25

निम्नलिखित प्रश्न में दिए गए विकल्पों में से संबंधित संख्या को चुनिए

$987 : 168 :: 837 : ?$

Options :

1. ✘ 96
2. ✘ 110
3. ✘ 225
4. ✔ 101

Question Number : 24 Question Id : 54592712548 Question Type : MCQ Option Shuffling : Yes Display Question Number : Yes  
Single Line Question Option : No Option Orientation : Vertical

Correct Marks : 1 Wrong Marks : 0.25

In the following question, select the missing number from the given series.

11, 42, 93, 164, 255, ?

Options :

1. ✔ 366
2. ✘ 372
3. ✘ 296
4. ✘ 406

Question Number : 24 Question Id : 54592712548 Question Type : MCQ Option Shuffling : Yes Display Question Number : Yes  
Single Line Question Option : No Option Orientation : Vertical

Correct Marks : 1 Wrong Marks : 0.25

निम्नलिखित प्रश्न में दी गई श्रृंखला में से लुप्त अंक ज्ञात कीजिए।

11, 42, 93, 164, 255, ?

Options :

1. ✔ 366
2. ✘ 372
3. ✘ 296
4. ✘ 406

Question Number : 25 Question Id : 54592712549 Question Type : MCQ Option Shuffling : Yes Display Question Number : Yes  
Single Line Question Option : No Option Orientation : Vertical

Correct Marks : 1 Wrong Marks : 0.25

In the following question, select the missing number from the given series.

6, 11, 23, 45, 91, ?

Options :

1. ✘ 180
2. ✘ 186
3. ✘ 148
4. ✔ 181

Question Number : 25 Question Id : 54592712549 Question Type : MCQ Option Shuffling : Yes Display Question Number : Yes  
Single Line Question Option : No Option Orientation : Vertical

Correct Marks : 1 Wrong Marks : 0.25

निम्नलिखित प्रश्न में दी गई श्रृंखला में से लुप्त अंक ज्ञात कीजिए।

6, 11, 23, 45, 91, ?

Options :

1. ✘ 180

2. ✖ 186
3. ✖ 148
4. ✔ 181

Question Number : 26 Question Id : 54592712550 Question Type : MCQ Option Shuffling : Yes Display Question Number : Yes  
Single Line Question Option : No Option Orientation : Vertical

Correct Marks : 1 Wrong Marks : 0.25

In the following question, select the missing number from the given series.

3, 10, 31, 94, 283, ?

Options :

1. ✖ 881
2. ✖ 697
3. ✔ 850
4. ✖ 861

Question Number : 26 Question Id : 54592712550 Question Type : MCQ Option Shuffling : Yes Display Question Number : Yes  
Single Line Question Option : No Option Orientation : Vertical

Correct Marks : 1 Wrong Marks : 0.25

निम्नलिखित प्रश्न में दी गई श्रृंखला में से लुप्त अंक ज्ञात कीजिए

3, 10, 31, 94, 283, ?

Options :

1. ✖ 881
2. ✖ 697
3. ✔ 850
4. ✖ 861

Question Number : 27 Question Id : 54592712551 Question Type : MCQ Option Shuffling : Yes Display Question Number : Yes  
Single Line Question Option : No Option Orientation : Vertical

Correct Marks : 1 Wrong Marks : 0.25

In the following question, select the related number from the given alternatives.

864 : 58 :: 376 : ?

Options :

1. ✖ 29
2. ✔ 47
3. ✖ 54
4. ✖ 16

Question Number : 27 Question Id : 54592712551 Question Type : MCQ Option Shuffling : Yes Display Question Number : Yes  
Single Line Question Option : No Option Orientation : Vertical

Correct Marks : 1 Wrong Marks : 0.25

निम्नलिखित प्रश्न में दिए गए विकल्पों में से संबंधित संख्या को चुनिए

864 : 58 :: 376 : ?

Options :

1. ✖ 29
2. ✔ 47
3. ✖ 54

4. ✘ 16

Question Number : 28 Question Id : 54592712552 Question Type : MCQ Option Shuffling : Yes Display Question Number : Yes  
Single Line Question Option : No Option Orientation : Vertical

Correct Marks : 1 Wrong Marks : 0.25

In the following question, select the related number from the given alternatives.

46 : 232 :: 58 : ?

Options :

1. ✘ 396

2. ✘ 658

3. ✘ 448

4. ✔ 537

Question Number : 28 Question Id : 54592712552 Question Type : MCQ Option Shuffling : Yes Display Question Number : Yes  
Single Line Question Option : No Option Orientation : Vertical

Correct Marks : 1 Wrong Marks : 0.25

निम्नलिखित प्रश्न में दिए गए विकल्पों में से संबंधित संख्या को चुनिए।

46 : 232 :: 58 : ?

Options :

1. ✘ 396

2. ✘ 658

3. ✘ 448

4. ✔ 537

Question Number : 29 Question Id : 54592712553 Question Type : MCQ Option Shuffling : Yes Display Question Number : Yes  
Single Line Question Option : No Option Orientation : Vertical

Correct Marks : 1 Wrong Marks : 0.25

In the following question, four number pairs are given. The number on left side of (-) is related to the number of the right side of (-) with some Logic/Rule/Relation. Three are similar on basis of same Logic/Rule/Relation. Select the odd one from the given alternatives.

Options :

1. ✔ 345 - 11

2. ✘ 367 - 16

3. ✘ 846 - 18

4. ✘ 329 - 14

Question Number : 29 Question Id : 54592712553 Question Type : MCQ Option Shuffling : Yes Display Question Number : Yes  
Single Line Question Option : No Option Orientation : Vertical

Correct Marks : 1 Wrong Marks : 0.25

नीचे दिए गए प्रश्न में, चार संख्या युग्म दिए गए हैं। (-) के बायीं ओर दी गई संख्या (-) के दायीं ओर दी गई संख्या से किसी तर्क/नियम/संबंध से संबंधित है। तीन उसी एक तर्क/नियम/संबंध के आधार पर समान हैं। दिए गए विकल्पों में से विषम को चुनिए।

Options :

1. ✔ 345 - 11

2. ✘ 367 - 16

3. ✘ 846 - 18

4. ✘ 329 - 14



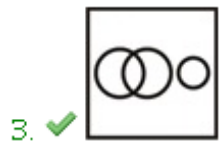
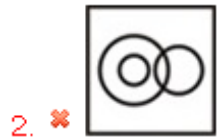
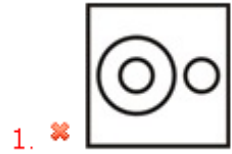
Question Number : 30 Question Id : 54592712554 Question Type : MCQ Option Shuffling : Yes Display Question Number : Yes  
Single Line Question Option : No Option Orientation : Vertical

Correct Marks : 1 Wrong Marks : 0.25

Identify the diagram that best represents the relationship among the given classes.

Men, Professor, Ship

Options :



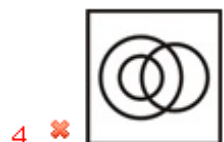
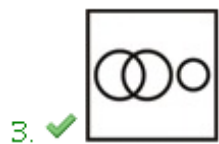
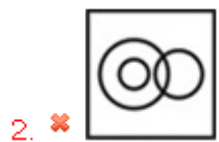
Question Number : 30 Question Id : 54592712554 Question Type : MCQ Option Shuffling : Yes Display Question Number : Yes  
Single Line Question Option : No Option Orientation : Vertical

Correct Marks : 1 Wrong Marks : 0.25

वह आरेख चुनिए जो नीचे दिए गए वर्गों के बीच के संबंध का सही निरूपण करता है।

पुरुष, प्रोफेसर, जहाज़

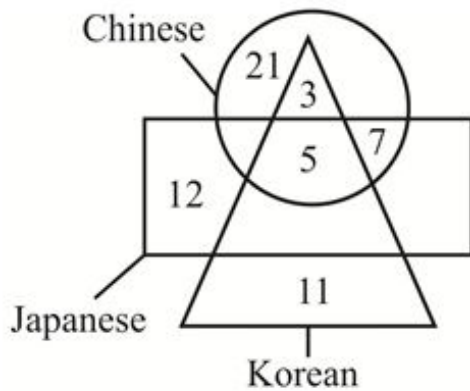
Options :



Question Number : 31 Question Id : 54592712555 Question Type : MCQ Option Shuffling : Yes Display Question Number : Yes  
Single Line Question Option : No Option Orientation : Vertical

Correct Marks : 1 Wrong Marks : 0.25

In the given figure, how many Chinese are Japanese but not Korean?



Options :

- ✘ 12
- ✘ 5
- ✘ 3
- ✔ 7

Question Number : 31 Question Id : 54592712555 Question Type : MCQ Option Shuffling : Yes Display Question Number : Yes  
Single Line Question Option : No Option Orientation : Vertical

Correct Marks : 1 Wrong Marks : 0.25

दी गई आकृति में, कितने चीनी जापानी हैं लेकिन कोरियाई नहीं है?



Options :

- ✘ 12
- ✘ 5
- ✘ 3
- ✔ 7

Question Number : 32 Question Id : 54592712556 Question Type : MCQ Option Shuffling : Yes Display Question Number : Yes  
Single Line Question Option : No Option Orientation : Vertical

Correct Marks : 1 Wrong Marks : 0.25

Asha walks 20 feet towards the east from a point P. Then she turns right and walks 15 feet. She again turns right and walks 20 feet. How far is Asha from point P now?

Options :

- ✔ 15 feet
- ✘ 13 feet
- ✘ 17 feet
- ✘ 12 feet

Question Number : 32 Question Id : 54592712556 Question Type : MCQ Option Shuffling : Yes Display Question Number : Yes  
Single Line Question Option : No Option Orientation : Vertical

Correct Marks : 1 Wrong Marks : 0.25

आशा बिंदु P से 20 फीट पूर्व की ओर चलती है। फिर वह दाएं मुड़ती है और 15 फीट चलती है। वह पुनः दाएं मुड़ती है और 20 फीट चलती है। आशा बिंदु P से अब कितनी दूर है?

Options :

1. ✓ 15 फीट
2. ✗ 13 फीट
3. ✗ 17 फीट
4. ✗ 12 फीट

Question Number : 33 Question Id : 54592712557 Question Type : MCQ Option Shuffling : Yes Display Question Number : Yes  
Single Line Question Option : No Option Orientation : Vertical

Correct Marks : 1 Wrong Marks : 0.25

A girl starts from her school and goes 8 km towards the south. She turns left and goes 8 km. She turns right and goes 8 km. She finally turns right and goes 23 km. How far and in which direction is she now from her school?

Options :

1. ✓  $\sqrt{481}$  km, South - west
2. ✗  $\sqrt{461}$  km, South - west
3. ✗  $\sqrt{481}$  km, South - east
4. ✗  $\sqrt{461}$  km, South - east

Question Number : 33 Question Id : 54592712557 Question Type : MCQ Option Shuffling : Yes Display Question Number : Yes  
Single Line Question Option : No Option Orientation : Vertical

Correct Marks : 1 Wrong Marks : 0.25

एक लड़की अपने स्कूल से आरंभ करती है तथा दक्षिण की ओर 8 कि.मी. जाती है। वह बाएं मुड़ती है तथा 8 कि.मी. जाती है। वह दाएं मुड़ती है तथा 8 कि.मी. जाती है। वह अंततः दाएं मुड़ती है तथा 23 कि.मी. जाती है। वह अपने स्कूल से कितनी दूर और किस दिशा में है?

Options :

1. ✓  $\sqrt{481}$  कि.मी., दक्षिण - पश्चिम
2. ✗  $\sqrt{461}$  कि.मी., दक्षिण - पश्चिम
3. ✗  $\sqrt{481}$  कि.मी., दक्षिण - पूर्व
4. ✗  $\sqrt{461}$  कि.मी., दक्षिण - पूर्व

Question Number : 34 Question Id : 54592712558 Question Type : MCQ Option Shuffling : Yes Display Question Number : Yes  
Single Line Question Option : No Option Orientation : Vertical

Correct Marks : 1 Wrong Marks : 0.25

In the following question, select the odd figure from the given alternatives.

Options :





Question Number : 34 Question Id : 54592712558 Question Type : MCQ Option Shuffling : Yes Display Question Number : Yes  
Single Line Question Option : No Option Orientation : Vertical

Correct Marks : 1 Wrong Marks : 0.25

निम्नलिखित प्रश्न में, दिए गए विकल्पों में से विषम आकृति को चुनिए।

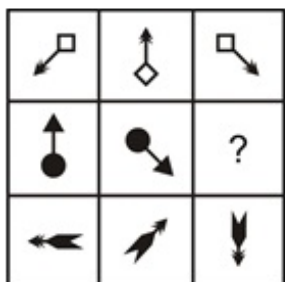
Options :



Question Number : 35 Question Id : 54592712559 Question Type : MCQ Option Shuffling : Yes Display Question Number : Yes  
Single Line Question Option : No Option Orientation : Vertical

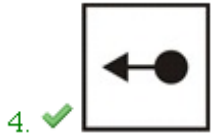
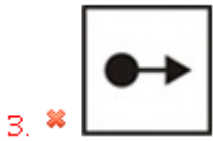
Correct Marks : 1 Wrong Marks : 0.25

Which answer figure will complete the pattern in the question figure?



Options :






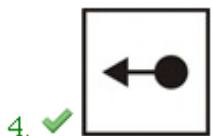
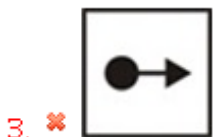
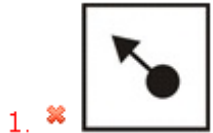
Question Number : 35 Question Id : 54592712559 Question Type : MCQ Option Shuffling : Yes Display Question Number : Yes  
Single Line Question Option : No Option Orientation : Vertical

Correct Marks : 1 Wrong Marks : 0.25

कौन सी उत्तर आकृति प्रश्न आकृति के प्रतिरूप को पूरा करेगी?



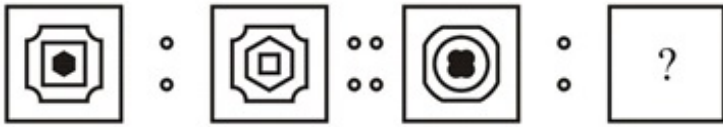
Options :



Question Number : 36 Question Id : 54592712560 Question Type : MCQ Option Shuffling : Yes Display Question Number : Yes  
Single Line Question Option : No Option Orientation : Vertical

Correct Marks : 1 Wrong Marks : 0.25

Two figures given on the left side of (::) are related with some logic/rule/relation. Select the missing figure on the right of (::) from the given alternatives based on the same logic/rule/relation.



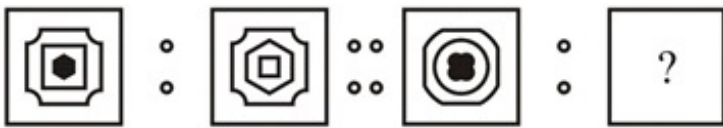
Options :



Question Number : 36 Question Id : 54592712560 Question Type : MCQ Option Shuffling : Yes Display Question Number : Yes  
Single Line Question Option : No Option Orientation : Vertical

Correct Marks : 1 Wrong Marks : 0.25

(::) के बायीं ओर दी गयी दो आकृतियाँ किसी तर्क/नियम/संबंध से संबंधित हैं। दिये गये विकल्पों में से (:) के दायीं ओर समान तर्क/नियम/संबंध पर आधारित लुप्त आकृति को चुनिये।



Options :

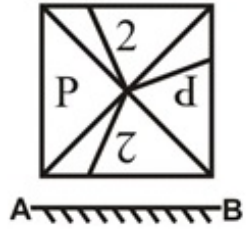




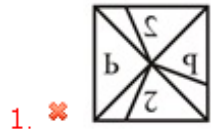
Question Number : 37 Question Id : 54592712561 Question Type : MCQ Option Shuffling : Yes Display Question Number : Yes Single Line Question Option : No Option Orientation : Vertical

Correct Marks : 1 Wrong Marks : 0.25

If a mirror is placed on the line AB, then which of the answer figures is the right image of the given figure?



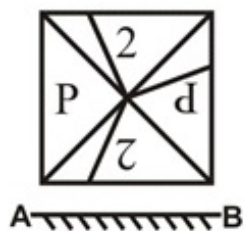
Options :



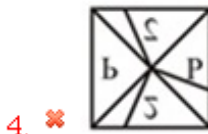
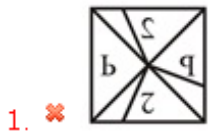
Question Number : 37 Question Id : 54592712561 Question Type : MCQ Option Shuffling : Yes Display Question Number : Yes Single Line Question Option : No Option Orientation : Vertical

Correct Marks : 1 Wrong Marks : 0.25

यदि एक दर्पण को AB रेखा पर रखा जाए, तो दी गई उत्तर आकृतियों में से कौन सी आकृति प्रश्न आकृति की सही प्रतिबिंब होगी?



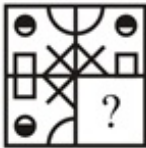
Options :



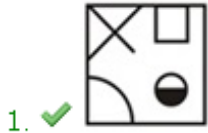
Question Number : 38 Question Id : 54592712562 Question Type : MCQ Option Shuffling : Yes Display Question Number : Yes  
 Single Line Question Option : No Option Orientation : Vertical

Correct Marks : 1 Wrong Marks : 0.25

Which answer figure will complete the pattern in the question figure?



Options :



Question Number : 38 Question Id : 54592712562 Question Type : MCQ Option Shuffling : Yes Display Question Number : Yes  
 Single Line Question Option : No Option Orientation : Vertical

Correct Marks : 1 Wrong Marks : 0.25



कौन सी उत्तर आकृति प्रश्न आकृति के प्रतिरूप को पूरा करेगी?



Options :



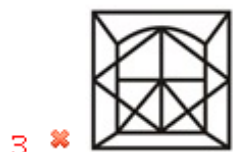
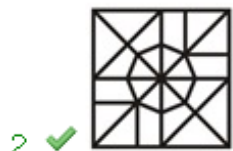
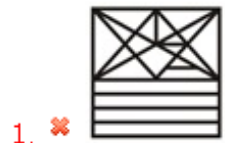
Question Number : 39 Question Id : 54592712563 Question Type : MCQ Option Shuffling : Yes Display Question Number : Yes Single Line Question Option : No Option Orientation : Vertical

Correct Marks : 1 Wrong Marks : 0.25

From the given answer figures, select the one in which the question figure is hidden/embedded.



Options :





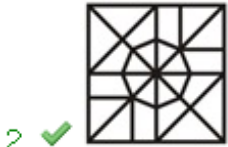
Question Number : 39 Question Id : 54592712563 Question Type : MCQ Option Shuffling : Yes Display Question Number : Yes  
Single Line Question Option : No Option Orientation : Vertical

Correct Marks : 1 Wrong Marks : 0.25

दी गई उत्तर आकृतियों में से उस उत्तर आकृति को चुनिए जिस में प्रश्न आकृति निहित है।



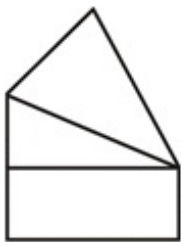
Options :



Question Number : 40 Question Id : 54592712564 Question Type : MCQ Option Shuffling : Yes Display Question Number : Yes  
Single Line Question Option : No Option Orientation : Vertical

Correct Marks : 1 Wrong Marks : 0.25

How many quadrilaterals are in the given figure?



Options :

1. ✘ 1

2. ✘ 2

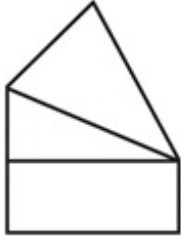
3. ✔ 3

4. ✘ 4

Question Number : 40 Question Id : 54592712564 Question Type : MCQ Option Shuffling : Yes Display Question Number : Yes  
Single Line Question Option : No Option Orientation : Vertical

Correct Marks : 1 Wrong Marks : 0.25

दी गयी आकृति में कितने चतुर्भुज हैं?



Options :

1. ✘ 1

2. ✘ 2

3. ✔ 3

4. ✘ 4

#### General Awareness1

Group Number :	3
Group Id :	545927623
Group Maximum Duration :	0
Group Minimum Duration :	0
Revisit allowed for view? :	No
Revisit allowed for edit? :	No
Break time:	0
Group Marks:	20
Revisit allowed for group Instructions? :	Yes
Maximum Instruction Time:	0
Minimum Instruction Time:	0

#### General Awareness1

Section Id :	545927623
Section Number :	1
Section type :	Online
Mandatory or Optional:	Mandatory
Number of Questions:	20
Number of Questions to be attempted:	20
Section Marks:	20
Display Number Panel:	Yes
Group All Questions:	No

Sub-Section Number:	1
Sub-Section Id:	545927747
Question Shuffling Allowed :	Yes

Question Number : 41 Question Id : 54592712565 Question Type : MCQ Option Shuffling : Yes Display Question Number : Yes  
Single Line Question Option : No Option Orientation : Vertical

Correct Marks : 1 Wrong Marks : 0.25

Which of the following state-folk dance pairs is NOT correct?

- I. Maharashtra - Lavani
- II. West Bengal - Kathi
- III. Himachal Pradesh - Bhangra
- IV. Andhra Pradesh - Kolattam

Options :

- 1. ✘ I
- 2. ✘ II
- 3. ✔ III
- 4. ✘ IV

Question Number : 41 Question Id : 54592712565 Question Type : MCQ Option Shuffling : Yes Display Question Number : Yes  
Single Line Question Option : No Option Orientation : Vertical

Correct Marks : 1 Wrong Marks : 0.25

निम्नलिखित में से कौन सा राज्य-लोक नृत्य का युग्म सही नहीं है?

- I. महाराष्ट्र - लावणी
- II. पश्चिम बंगाल - काठी
- III. हिमाचल प्रदेश - भांगड़ा
- IV. आंध्र प्रदेश - कोलट्टम

Options :

- 1. ✘ I
- 2. ✘ II
- 3. ✔ III
- 4. ✘ IV

Question Number : 42 Question Id : 54592712566 Question Type : MCQ Option Shuffling : Yes Display Question Number : Yes  
Single Line Question Option : No Option Orientation : Vertical

Correct Marks : 1 Wrong Marks : 0.25

Notre-Dame Cathedral is situated in \_\_\_\_\_.

Options :

- 1. ✘ Dhaka
- 2. ✔ Paris
- 3. ✘ New York
- 4. ✘ Tokyo

Question Number : 42 Question Id : 54592712566 Question Type : MCQ Option Shuffling : Yes Display Question Number : Yes  
Single Line Question Option : No Option Orientation : Vertical

Correct Marks : 1 Wrong Marks : 0.25

नोट्रे-डेम कैथेड्रल \_\_\_\_\_ में स्थित है।

Options :

- 1. ✘ ढाका
- 2. ✔ पेरिस
- 3. ✘ न्यूयॉर्क
- 4. ✘ टोक्यो

Question Number : 43 Question Id : 54592712567 Question Type : MCQ Option Shuffling : Yes Display Question Number : Yes  
Single Line Question Option : No Option Orientation : Vertical

Correct Marks : 1 Wrong Marks : 0.25

"Theyyam" dance is associated with which state?

Options :

1. ✘ Uttar Pradesh
2. ✘ Assam
3. ✔ Kerala
4. ✘ Orissa

Question Number : 43 Question Id : 54592712567 Question Type : MCQ Option Shuffling : Yes Display Question Number : Yes  
Single Line Question Option : No Option Orientation : Vertical

Correct Marks : 1 Wrong Marks : 0.25

"तेय्यम" नृत्य किस राज्य से जुड़ा है?

Options :

1. ✘ उत्तर प्रदेश
2. ✘ असम
3. ✔ केरल
4. ✘ उड़ीसा

Question Number : 44 Question Id : 54592712568 Question Type : MCQ Option Shuffling : Yes Display Question Number : Yes  
Single Line Question Option : No Option Orientation : Vertical

Correct Marks : 1 Wrong Marks : 0.25

In which state is the "Natyanjali" dance festival held?

Options :

1. ✔ Tamil Nadu
2. ✘ Andhra Pradesh
3. ✘ Kolkata
4. ✘ Goa

Question Number : 44 Question Id : 54592712568 Question Type : MCQ Option Shuffling : Yes Display Question Number : Yes  
Single Line Question Option : No Option Orientation : Vertical

Correct Marks : 1 Wrong Marks : 0.25

"नाट्यांजलि" नृत्य महोत्सव किस राज्य में आयोजित किया जाता है?

Options :

1. ✔ तमिलनाडु
2. ✘ आंध्र प्रदेश
3. ✘ कोलकाता
4. ✘ गोवा

Question Number : 45 Question Id : 54592712569 Question Type : MCQ Option Shuffling : Yes Display Question Number : Yes  
Single Line Question Option : No Option Orientation : Vertical

Correct Marks : 1 Wrong Marks : 0.25

Budgetary deficits can be financed by which of the following methods?

- I. Taxation
- II. Borrowing
- III. Printing money

Options :

1. ✘ I and II
2. ✘ II and III
3. ✘ III and I

4. ✓ I, II and III

Question Number : 45 Question Id : 54592712569 Question Type : MCQ Option Shuffling : Yes Display Question Number : Yes  
Single Line Question Option : No Option Orientation : Vertical

Correct Marks : 1 Wrong Marks : 0.25

बजट घाटे को निम्नलिखित में से किस विधि द्वारा वित्तपोषित किया जा सकता है?

- I. कराधान
- II. उधार
- III. मुद्रा छापना

Options :

- 1. ✗ I तथा II
- 2. ✗ II तथा III
- 3. ✗ III तथा I
- 4. ✓ I, II तथा III

Question Number : 46 Question Id : 54592712570 Question Type : MCQ Option Shuffling : Yes Display Question Number : Yes  
Single Line Question Option : No Option Orientation : Vertical

Correct Marks : 1 Wrong Marks : 0.25

----- gross domestic product is the value of gross domestic product at the current prevailing prices.

Options :

- 1. ✗ Real
- 2. ✗ Uniform
- 3. ✗ Constant
- 4. ✓ Nominal

Question Number : 46 Question Id : 54592712570 Question Type : MCQ Option Shuffling : Yes Display Question Number : Yes  
Single Line Question Option : No Option Orientation : Vertical

Correct Marks : 1 Wrong Marks : 0.25

----- सकल घरेलू उत्पाद वर्तमान प्रचलित कीमतों पर सकल घरेलू उत्पाद का मूल्य है।

Options :

- 1. ✗ वास्तविक
- 2. ✗ समान
- 3. ✗ स्थिर
- 4. ✓ मौद्रिक

Question Number : 47 Question Id : 54592712571 Question Type : MCQ Option Shuffling : Yes Display Question Number : Yes  
Single Line Question Option : No Option Orientation : Vertical

Correct Marks : 1 Wrong Marks : 0.25

Who is responsible for calculation of GDP in India?

Options :

- 1. ✗ Reserve Bank of India
- 2. ✗ National Sample Survey Office
- 3. ✗ NITI Aayog
- 4. ✓ Central Statistics Office

Question Number : 47 Question Id : 54592712571 Question Type : MCQ Option Shuffling : Yes Display Question Number : Yes  
Single Line Question Option : No Option Orientation : Vertical

Correct Marks : 1 Wrong Marks : 0.25

भारत में सकल घरेलू उत्पाद के परिकलन के लिए निम्नलिखित में से कौन उत्तरदायी है?

Options :

- भारतीय रिज़र्व बैंक
- राष्ट्रीय नमूना सर्वेक्षण कार्यालय
- नीति आयोग
- केंद्रीय सांख्यिकी कार्यालय

Question Number : 48 Question Id : 54592712572 Question Type : MCQ Option Shuffling : Yes Display Question Number : Yes  
Single Line Question Option : No Option Orientation : Vertical

Correct Marks : 1 Wrong Marks : 0.25

Which of the following acids is NOT present in acid rain?

Options :

- Nitric acid
- Carbonic acid
- Sulphuric acid
- Formic acid

Question Number : 48 Question Id : 54592712572 Question Type : MCQ Option Shuffling : Yes Display Question Number : Yes  
Single Line Question Option : No Option Orientation : Vertical

Correct Marks : 1 Wrong Marks : 0.25

निम्नलिखित में से कौन सा अम्ल अम्लीय वर्षा में उपस्थित नहीं होता है?

Options :

- नाइट्रिक अम्ल
- कार्बोनिक अम्ल
- सल्फ्यूरिक अम्ल
- फॉर्मिक अम्ल

Question Number : 49 Question Id : 54592712573 Question Type : MCQ Option Shuffling : Yes Display Question Number : Yes  
Single Line Question Option : No Option Orientation : Vertical

Correct Marks : 1 Wrong Marks : 0.25

Which of the following acts as a natural pinhole camera?

Options :

- Cardboard with a hole
- Grass
- Tree with no leaves
- Trees with large number of leaves

Question Number : 49 Question Id : 54592712573 Question Type : MCQ Option Shuffling : Yes Display Question Number : Yes  
Single Line Question Option : No Option Orientation : Vertical

Correct Marks : 1 Wrong Marks : 0.25

निम्नलिखित में से कौनसा एक प्राकृतिक सूचीछिद्र कैमरा के रूप में कार्य करता है?

Options :

- एक छेद वाला गत्ता
- घास
- बिना पत्तों का पेड़
- बहुत अधिक पत्तों वाला पेड़

Question Number : 50 Question Id : 54592712574 Question Type : MCQ Option Shuffling : Yes Display Question Number : Yes  
Single Line Question Option : No Option Orientation : Vertical

Correct Marks : 1 Wrong Marks : 0.25

Conduction is \_\_\_\_\_.

Options :

- ✘ transfer of heat from cold end to hot end of a same solid
- ✔ transfer of heat from hot end to cold end of a same solid
- ✘ heat transfer between two bodies of same temperature
- ✘ heat transfer from solid to liquid at same temperature

Question Number : 50 Question Id : 54592712574 Question Type : MCQ Option Shuffling : Yes Display Question Number : Yes  
Single Line Question Option : No Option Orientation : Vertical

Correct Marks : 1 Wrong Marks : 0.25

चालन \_\_\_\_\_ है।

Options :

- ✘ एक ही ठोस के ठंडे सिरे से गर्म सिरे पर ऊष्मा का स्थानांतरण
- ✔ एक ही ठोस के गर्म सिरे से ठंडे सिरे पर ऊष्मा का स्थानांतरण
- ✘ समान तापमान वाले दो पिंडों के बीच ऊष्मा का स्थानांतरण
- ✘ समान तापमान पर ऊष्मा का ठोस से तरल पर स्थानांतरण

Question Number : 51 Question Id : 54592712575 Question Type : MCQ Option Shuffling : Yes Display Question Number : Yes  
Single Line Question Option : No Option Orientation : Vertical

Correct Marks : 1 Wrong Marks : 0.25

Special shapes are given to airplanes and boats. Which of the following is NOT a reason for doing so?

- I. Reduce loss of energy
- II. Reduce fluid solid friction

Options :

- ✘ Only I
- ✔ Only II
- ✘ Both I and II
- ✘ Neither I nor II

Question Number : 51 Question Id : 54592712575 Question Type : MCQ Option Shuffling : Yes Display Question Number : Yes  
Single Line Question Option : No Option Orientation : Vertical

Correct Marks : 1 Wrong Marks : 0.25

हवाई जहाजों और नावों को विशेष आकार दिया जाता है। ऐसा करने के पीछे निम्नलिखित में से कौन सा कारण नहीं है?

- I. ऊर्जा का नुकसान कम करना।
- II. द्रव-ठोस घर्षण कम करना।

Options :

- ✘ केवल I
- ✔ केवल II
- ✘ I तथा II दोनों
- ✘ ना तो I ना तो II

Question Number : 52 Question Id : 54592712576 Question Type : MCQ Option Shuffling : Yes Display Question Number : Yes  
Single Line Question Option : No Option Orientation : Vertical

Correct Marks : 1 Wrong Marks : 0.25

The part of the human body which has no role in producing sound is the \_\_\_\_\_.

Options :

- ✘ larynx
- ✘ windpipe



3. ✘ vocal cord

4. ✔ stomach

Question Number : 52 Question Id : 54592712576 Question Type : MCQ Option Shuffling : Yes Display Question Number : Yes  
Single Line Question Option : No Option Orientation : Vertical

Correct Marks : 1 Wrong Marks : 0.25

मानव शरीर का वह भाग जिसकी ध्वनि उत्पन्न करने में कोई भूमिका नहीं है, ----- है

Options :

1. ✘ कंठ

2. ✘ श्वासनली

3. ✘ वाक् तंतु

4. ✔ अमाशय

Question Number : 53 Question Id : 54592712577 Question Type : MCQ Option Shuffling : Yes Display Question Number : Yes  
Single Line Question Option : No Option Orientation : Vertical

Correct Marks : 1 Wrong Marks : 0.25

Select the correct order of processing of sound by humans.

A - Eardrum, B - Brain, C - Inner ear.

Options :

1. ✘ A - B - C

2. ✘ B - A - C

3. ✘ C - B - A

4. ✔ A - C - B

Question Number : 53 Question Id : 54592712577 Question Type : MCQ Option Shuffling : Yes Display Question Number : Yes  
Single Line Question Option : No Option Orientation : Vertical

Correct Marks : 1 Wrong Marks : 0.25

मनुष्यों द्वारा ध्वनि के प्रसंस्करण के सही क्रम का चयन करें

A - कर्ण पट्ट, B - मस्तिष्क, C - आंतर कर्ण

Options :

1. ✘ A - B - C

2. ✘ B - A - C

3. ✘ C - B - A

4. ✔ A - C - B

Question Number : 54 Question Id : 54592712578 Question Type : MCQ Option Shuffling : Yes Display Question Number : Yes  
Single Line Question Option : No Option Orientation : Vertical

Correct Marks : 1 Wrong Marks : 0.25

First menstrual flow is known as -----.

Options :

1. ✘ Menopause

2. ✘ Menocycle

3. ✔ Menarche

4. ✘ Menostart

Question Number : 54 Question Id : 54592712578 Question Type : MCQ Option Shuffling : Yes Display Question Number : Yes  
Single Line Question Option : No Option Orientation : Vertical

Correct Marks : 1 Wrong Marks : 0.25

पहला ऋतुस्ताव \_\_\_\_\_ के नाम से जाना जाता है।

Options :

1. ✘ रजोनिवृत्ति
2. ✘ ऋतुचक्र
3. ✔ रजोदर्शन
4. ✘ ऋतुस्ताव शुरूआत

Question Number : 55 Question Id : 54592712579 Question Type : MCQ Option Shuffling : Yes Display Question Number : Yes  
Single Line Question Option : No Option Orientation : Vertical

Correct Marks : 1 Wrong Marks : 0.25

Which acid is released in the stomach of human beings for the activation of the Enzyme 'Pepsin'?

Options :

1. ✘ Sulphuric acid
2. ✘ Nitric acid
3. ✘ Ascorbic acid
4. ✔ Hydrochloric acid

Question Number : 55 Question Id : 54592712579 Question Type : MCQ Option Shuffling : Yes Display Question Number : Yes  
Single Line Question Option : No Option Orientation : Vertical

Correct Marks : 1 Wrong Marks : 0.25

पेप्सिन 'इंजाईम' को सक्रिय करने के लिए मानवों के अमाशय में कौन सा अम्ल उत्पन्न होता है?

Options :

1. ✘ सल्फ्यूरिक अम्ल
2. ✘ नाइट्रिक अम्ल
3. ✘ एस्कोर्बिक अम्ल
4. ✔ हाइड्रोक्लोरिक अम्ल

Question Number : 56 Question Id : 54592712580 Question Type : MCQ Option Shuffling : Yes Display Question Number : Yes  
Single Line Question Option : No Option Orientation : Vertical

Correct Marks : 1 Wrong Marks : 0.25

Which of the following factors affect the population of a place?

- I. Climate
- II. Infrastructure
- III. Healthcare

Options :

1. ✘ I and II
2. ✘ II and III
3. ✘ III and I
4. ✔ I, II and III

Question Number : 56 Question Id : 54592712580 Question Type : MCQ Option Shuffling : Yes Display Question Number : Yes  
Single Line Question Option : No Option Orientation : Vertical

Correct Marks : 1 Wrong Marks : 0.25

निम्नलिखित में से कौन से कारक किसी स्थान की जनसंख्या को प्रभावित करते हैं?

- I. जलवायु
- II. आधारभूत सुविधाएँ
- III. स्वास्थ्य सेवाएँ

Options :

- ✘ I तथा II
- ✘ II तथा III
- ✘ III तथा I
- ✔ I, II तथा III

Question Number : 57 Question Id : 54592712581 Question Type : MCQ Option Shuffling : Yes Display Question Number : Yes  
Single Line Question Option : No Option Orientation : Vertical

Correct Marks : 1 Wrong Marks : 0.25

Which Indian river is known as 'Singi Khamban' in Tibet?

Options :

- ✔ Indus
- ✘ Brahmaputra
- ✘ Jhelum
- ✘ Chenab

Question Number : 57 Question Id : 54592712581 Question Type : MCQ Option Shuffling : Yes Display Question Number : Yes  
Single Line Question Option : No Option Orientation : Vertical

Correct Marks : 1 Wrong Marks : 0.25

किस भारतीय नदी को तिब्बत में 'सिंगी खंबन' के नाम से जाना जाता है?

Options :

- ✔ सिंधु
- ✘ ब्रह्मपुत्र
- ✘ जहलम
- ✘ चेनाब

Question Number : 58 Question Id : 54592712582 Question Type : MCQ Option Shuffling : Yes Display Question Number : Yes  
Single Line Question Option : No Option Orientation : Vertical

Correct Marks : 1 Wrong Marks : 0.25

Which of the following is a westward flowing river?

Options :

- ✘ Ganga
- ✘ Krishna
- ✔ Tapi
- ✘ Godavari

Question Number : 58 Question Id : 54592712582 Question Type : MCQ Option Shuffling : Yes Display Question Number : Yes  
Single Line Question Option : No Option Orientation : Vertical

Correct Marks : 1 Wrong Marks : 0.25

निम्नलिखित में से कौन सी नदी पश्चिम की ओर बहती है?

Options :

- ✘ गंगा
- ✘ कृष्णा
- ✔ तापी
- ✘ गोदावरी

Question Number : 59 Question Id : 54592712583 Question Type : MCQ Option Shuffling : Yes Display Question Number : Yes  
Single Line Question Option : No Option Orientation : Vertical

Correct Marks : 1 Wrong Marks : 0.25

Which of the following is NOT a Kharif crop?

Options :

1. ✘ Maize
2. ✔ Watermelon
3. ✘ Jowar
4. ✘ Bajra

Question Number : 59 Question Id : 54592712583 Question Type : MCQ Option Shuffling : Yes Display Question Number : Yes  
Single Line Question Option : No Option Orientation : Vertical

Correct Marks : 1 Wrong Marks : 0.25

निम्नलिखित में से कौन सी फसल एक खरीफ की फसल नहीं है?

Options :

1. ✘ मक्का
2. ✔ तरबूज
3. ✘ ज्वार
4. ✘ बाजरा

Question Number : 60 Question Id : 54592712584 Question Type : MCQ Option Shuffling : Yes Display Question Number : Yes  
Single Line Question Option : No Option Orientation : Vertical

Correct Marks : 1 Wrong Marks : 0.25

In which type of farming farmers use High Yielding Variety (HYV) of seeds, chemical fertilizers, pesticides etc. to increase crop productivity?

- I. Commercial farming
- II. Primitive farming
- III. Subsistence farming

Options :

1. ✔ Only I
2. ✘ Only II
3. ✘ Only III
4. ✘ I and III

Question Number : 60 Question Id : 54592712584 Question Type : MCQ Option Shuffling : Yes Display Question Number : Yes  
Single Line Question Option : No Option Orientation : Vertical

Correct Marks : 1 Wrong Marks : 0.25

किस प्रकार की खेती में किसान फसल की उत्पादकता बढ़ाने के लिए उच्च उपज किस्म (HYV) के बीजों, रासायनिक उर्वरकों, कीटनाशकों आदि का उपयोग करते हैं?

- I. वाणिज्यिक खेती
- II. प्रारंभिक खेती
- III. निर्वाह खेती

Options :

1. ✔ केवल I
2. ✘ केवल II
3. ✘ केवल III
4. ✘ I तथा III

Group Maximum Duration :	0
Group Minimum Duration :	0
Revisit allowed for view? :	No
Revisit allowed for edit? :	No
Break time:	0
Group Marks:	20
Revisit allowed for group Instructions? :	Yes
Maximum Instruction Time:	0
Minimum Instruction Time:	0

## General Awareness2

Section Id :	545927624
Section Number :	1
Section type :	Online
Mandatory or Optional:	Mandatory
Number of Questions:	20
Number of Questions to be attempted:	20
Section Marks:	20
Display Number Panel:	Yes
Group All Questions:	No

Sub-Section Number:	1
Sub-Section Id:	545927748
Question Shuffling Allowed :	Yes

Question Number : 61 Question Id : 54592712585 Question Type : MCQ Option Shuffling : Yes Display Question Number : Yes  
Single Line Question Option : No Option Orientation : Vertical

Correct Marks : 1 Wrong Marks : 0.25

Coffee is grown in which of the following states of India?

Options :

- ✘ Rajasthan
- ✔ Karnataka
- ✘ Punjab
- ✘ Haryana

Question Number : 61 Question Id : 54592712585 Question Type : MCQ Option Shuffling : Yes Display Question Number : Yes  
Single Line Question Option : No Option Orientation : Vertical

Correct Marks : 1 Wrong Marks : 0.25

कॉफी निम्नलिखित में से भारत के किस राज्य में उगाई जाती है?

Options :

- ✘ राजस्थान
- ✔ कर्नाटक
- ✘ पंजाब
- ✘ हरियाणा

Question Number : 62 Question Id : 54592712586 Question Type : MCQ Option Shuffling : Yes Display Question Number : Yes  
Single Line Question Option : No Option Orientation : Vertical

Correct Marks : 1 Wrong Marks : 0.25

Who among the following kings is associated with the Maratha Kingdom?

Options :

- ✘ Raja Ajit Singh
- ✘ Murshid Quli Khan
- ✔ Shivaji
- ✘ Jahandar Shah

Question Number : 62 Question Id : 54592712586 Question Type : MCQ Option Shuffling : Yes Display Question Number : Yes  
Single Line Question Option : No Option Orientation : Vertical

Correct Marks : 1 Wrong Marks : 0.25

निम्नलिखित राजाओं में से कौन मराठा साम्राज्य से जुड़ा है?

Options :

- ✘ राजा अजीत सिंह
- ✘ मुर्शिद कुली खां
- ✔ शिवाजी
- ✘ जहाँदार शाह

Question Number : 63 Question Id : 54592712587 Question Type : MCQ Option Shuffling : Yes Display Question Number : Yes  
Single Line Question Option : No Option Orientation : Vertical

Correct Marks : 1 Wrong Marks : 0.25

'Nayanars' were saints devoted to which of the following Gods?

Options :

- ✘ Krishna
- ✔ Shiva
- ✘ Vishnu
- ✘ Brahma

Question Number : 63 Question Id : 54592712587 Question Type : MCQ Option Shuffling : Yes Display Question Number : Yes  
Single Line Question Option : No Option Orientation : Vertical

Correct Marks : 1 Wrong Marks : 0.25

'नयनार' संत निम्नलिखित में से किस भगवान के भक्त थे?

Options :

- ✘ कृष्णा
- ✔ शिव
- ✘ विष्णु
- ✘ ब्रह्मा

Question Number : 64 Question Id : 54592712588 Question Type : MCQ Option Shuffling : Yes Display Question Number : Yes  
Single Line Question Option : No Option Orientation : Vertical

Correct Marks : 1 Wrong Marks : 0.25

The Battle of Seringapatam was fought between the British East India Company and the \_\_\_\_\_.

Options :

- ✘ Bombay Province
- ✘ Kingdom of Jhansi
- ✘ Bengal Province
- ✔ Kingdom of Mysore

Question Number : 64 Question Id : 54592712588 Question Type : MCQ Option Shuffling : Yes Display Question Number : Yes  
Single Line Question Option : No Option Orientation : Vertical

Correct Marks : 1 Wrong Marks : 0.25

श्रीरंगपट्टम का युद्ध ब्रिटिश ईस्ट इंडिया कंपनी और \_\_\_\_\_ के बीच हुआ था।

Options :

1. ✘ बॉम्बे प्रांत
2. ✘ झांसी साम्राज्य
3. ✘ बंगाल प्रांत
4. ✔ मैसूर साम्राज्य

Question Number : 65 Question Id : 54592712589 Question Type : MCQ Option Shuffling : Yes Display Question Number : Yes  
Single Line Question Option : No Option Orientation : Vertical

Correct Marks : 1 Wrong Marks : 0.25

'Jatakas', a type of religious literature are associated with which of the following?

Options :

1. ✘ Jainism
2. ✔ Buddhism
3. ✘ Judaism
4. ✘ Sikhism

Question Number : 65 Question Id : 54592712589 Question Type : MCQ Option Shuffling : Yes Display Question Number : Yes  
Single Line Question Option : No Option Orientation : Vertical

Correct Marks : 1 Wrong Marks : 0.25

एक प्रकार के धार्मिक साहित्य 'जातक', मूलिखित में से किस धर्म से संबंधित है?

Options :

1. ✘ जैन धर्म
2. ✔ बौद्ध धर्म
3. ✘ यहूदी धर्म
4. ✘ सिख धर्म

Question Number : 66 Question Id : 54592712590 Question Type : MCQ Option Shuffling : Yes Display Question Number : Yes  
Single Line Question Option : No Option Orientation : Vertical

Correct Marks : 1 Wrong Marks : 0.25

\_\_\_\_\_ introduced the Ganapati festival in Maharashtra in 1893.

Options :

1. ✘ Aurobindo Ghosh
2. ✘ Bankim Chandra Chattopadhyay
3. ✘ Mahatma Gandhi
4. ✔ Bal Gangadhar Tilak

Question Number : 66 Question Id : 54592712590 Question Type : MCQ Option Shuffling : Yes Display Question Number : Yes  
Single Line Question Option : No Option Orientation : Vertical

Correct Marks : 1 Wrong Marks : 0.25

\_\_\_\_\_ ने 1893 में महाराष्ट्र में गणपति उत्सव की शुरुआत की।

Options :

1. ✘ अरबिंदो घोष
2. ✘ बंकिम चंद्र चट्टोपाध्याय
3. ✘ महात्मा गांधी
4. ✔ बाल गंगाधर तिलक

Question Number : 67 Question Id : 54592712591 Question Type : MCQ Option Shuffling : Yes Display Question Number : Yes  
Single Line Question Option : No Option Orientation : Vertical

Correct Marks : 1 Wrong Marks : 0.25

In 'Tinkathia' system, farmers had to cultivate Indigo in \_\_\_\_\_ part of their land holding.

Options :

1. ✘ 1/20
2. ✘ 1/10
3. ✔ 3/20
4. ✘ 7/20

Question Number : 67 Question Id : 54592712591 Question Type : MCQ Option Shuffling : Yes Display Question Number : Yes  
Single Line Question Option : No Option Orientation : Vertical

Correct Marks : 1 Wrong Marks : 0.25

'तिनकठिया' प्रणाली में, किसानों को अपनी भूमि जोत के \_\_\_\_\_ भूभाग पर नील की खेती करनी होती थी।

Options :

1. ✘ 1/20
2. ✘ 1/10
3. ✔ 3/20
4. ✘ 7/20

Question Number : 68 Question Id : 54592712592 Question Type : MCQ Option Shuffling : Yes Display Question Number : Yes  
Single Line Question Option : No Option Orientation : Vertical

Correct Marks : 1 Wrong Marks : 0.25

In which state is the Central Institute of Mining and Fuel Research situated?

Options :

1. ✔ Jharkhand
2. ✘ Uttarakhand
3. ✘ Maharashtra
4. ✘ Andhra Pradesh

Question Number : 68 Question Id : 54592712592 Question Type : MCQ Option Shuffling : Yes Display Question Number : Yes  
Single Line Question Option : No Option Orientation : Vertical

Correct Marks : 1 Wrong Marks : 0.25

केंद्रीय खनन एवं ईंधन अनुसंधान संस्थान किस राज्य में स्थित है?

Options :

1. ✔ झारखंड
2. ✘ उत्तराखंड
3. ✘ महाराष्ट्र
4. ✘ आंध्र प्रदेश

Question Number : 69 Question Id : 54592712593 Question Type : MCQ Option Shuffling : Yes Display Question Number : Yes  
Single Line Question Option : No Option Orientation : Vertical

Correct Marks : 1 Wrong Marks : 0.25

Which writer has been honoured with the Jnanpith Award 2018?

Options :

1. ✘ Malala Yousafzai
2. ✘ William Dalrymple
3. ✔ Amitav Ghosh
4. ✘ Samantha Shannon



Question Number : 69 Question Id : 54592712593 Question Type : MCQ Option Shuffling : Yes Display Question Number : Yes  
Single Line Question Option : No Option Orientation : Vertical

Correct Marks : 1 Wrong Marks : 0.25

किस लेखक को ज्ञानपीठ पुरस्कार 2018 से सम्मानित किया गया है?

Options :

- ✘ मलाला युसुफ़ज़ई
- ✘ विलियम डेलरिम्पल
- ✔ अमिताव घोष
- ✘ समांथा शैनन

Question Number : 70 Question Id : 54592712594 Question Type : MCQ Option Shuffling : Yes Display Question Number : Yes  
Single Line Question Option : No Option Orientation : Vertical

Correct Marks : 1 Wrong Marks : 0.25

Who is the first woman IPS officer to complete the 7 Summit Challenge in 2019?

Options :

- ✘ Archana Ramasundaram
- ✘ Virmla Mehra
- ✘ Dr B. Sandhya
- ✔ Aparna Kumar

Question Number : 70 Question Id : 54592712594 Question Type : MCQ Option Shuffling : Yes Display Question Number : Yes  
Single Line Question Option : No Option Orientation : Vertical

Correct Marks : 1 Wrong Marks : 0.25

2019 में 7 समिट चैलेंज को पूरा करने वाली प्रथम महिला आई.पी.एस. अधिकारी कौन हैं?

Options :

- ✘ अर्चना रामासुंदरम
- ✘ विमला मेहरा
- ✘ डॉ. बी संध्या
- ✔ अपर्णा कुमार

Question Number : 71 Question Id : 54592712595 Question Type : MCQ Option Shuffling : Yes Display Question Number : Yes  
Single Line Question Option : No Option Orientation : Vertical

Correct Marks : 1 Wrong Marks : 0.25

Which company got the President's award for excellent Corporate Social Responsibility (CSR) in Social Development in 2019?

Options :

- ✘ Bharat Aluminium Company Ltd
- ✔ National Aluminium Company Limited
- ✘ National Thermal Power Corporation Limited
- ✘ Steel Authority of India Limited

Question Number : 71 Question Id : 54592712595 Question Type : MCQ Option Shuffling : Yes Display Question Number : Yes  
Single Line Question Option : No Option Orientation : Vertical

Correct Marks : 1 Wrong Marks : 0.25

2019 में सामाजिक विकास में उत्कृष्ट निगमित सामाजिक दायित्व (सी.एस.आर.) के लिए किस कंपनी को राष्ट्रपति पुरस्कार मिला?

Options :

- ✘ भारत एल्यूमिनियम कंपनी लिमिटेड
- ✔ नेशनल एल्यूमिनियम कंपनी लिमिटेड
- ✘ नेशनल थर्मल पावर कॉर्पोरेशन लिमिटेड

4. ✖ स्टील अथॉरिटी ऑफ इंडिया लिमिटेड

Question Number : 72 Question Id : 54592712596 Question Type : MCQ Option Shuffling : Yes Display Question Number : Yes  
Single Line Question Option : No Option Orientation : Vertical

Correct Marks : 1 Wrong Marks : 0.25

International Day of Parliamentarism is celebrated on \_\_\_\_\_.

Options :

1. ✖ 30th June
2. ✖ 27th June
3. ✔ 30th May
4. ✖ 27th May

Question Number : 72 Question Id : 54592712596 Question Type : MCQ Option Shuffling : Yes Display Question Number : Yes  
Single Line Question Option : No Option Orientation : Vertical

Correct Marks : 1 Wrong Marks : 0.25

संसद का अंतर्राष्ट्रीय दिवस \_\_\_\_\_ को मनाया जाता है।

Options :

1. ✖ 30 जून
2. ✖ 27 जून
3. ✔ 30 मई
4. ✖ 27 मई

Question Number : 73 Question Id : 54592712597 Question Type : MCQ Option Shuffling : Yes Display Question Number : Yes  
Single Line Question Option : No Option Orientation : Vertical

Correct Marks : 1 Wrong Marks : 0.25

\_\_\_\_\_ is the first transgender to receive the Padma Shri 2019 in Bharatanatyam.

Options :

1. ✖ Laxmi Narayan Tripathi
2. ✖ Sathya Sri Sharmila
3. ✔ Narthaki Nataraj
4. ✖ Joyita Mondal

Question Number : 73 Question Id : 54592712597 Question Type : MCQ Option Shuffling : Yes Display Question Number : Yes  
Single Line Question Option : No Option Orientation : Vertical

Correct Marks : 1 Wrong Marks : 0.25

\_\_\_\_\_ भरतनाट्यम में पद्म श्री 2019 पाने वाले पहले ट्रांसजेंडर हैं।

Options :

1. ✖ लक्ष्मी नारायण त्रिपाठी
2. ✖ सत्य श्री शर्मिला
3. ✔ नर्तकी नटराज
4. ✖ जोयिता मोंडल

Question Number : 74 Question Id : 54592712598 Question Type : MCQ Option Shuffling : Yes Display Question Number : Yes  
Single Line Question Option : No Option Orientation : Vertical

Correct Marks : 1 Wrong Marks : 0.25

What is the minimum age for the appointment as Governor?

Options :

1. ✖ 30 years
2. ✖ 25 years

3. ✓ 35 years

4. ✗ 29 years

Question Number : 74 Question Id : 54592712598 Question Type : MCQ Option Shuffling : Yes Display Question Number : Yes  
Single Line Question Option : No Option Orientation : Vertical

Correct Marks : 1 Wrong Marks : 0.25

राज्यपाल की नियुक्ति के लिए न्यूनतम आयु क्या है?

Options :

1. ✗ 30 वर्ष

2. ✗ 25 वर्ष

3. ✓ 35 वर्ष

4. ✗ 29 वर्ष

Question Number : 75 Question Id : 54592712599 Question Type : MCQ Option Shuffling : Yes Display Question Number : Yes  
Single Line Question Option : No Option Orientation : Vertical

Correct Marks : 1 Wrong Marks : 0.25

Which of the following was added to the Indian Union through the 12th Constitutional Amendment Act?

Options :

1. ✓ Daman and Diu

2. ✗ Sikkim

3. ✗ Mizoram

4. ✗ Puducherry

Question Number : 75 Question Id : 54592712599 Question Type : MCQ Option Shuffling : Yes Display Question Number : Yes  
Single Line Question Option : No Option Orientation : Vertical

Correct Marks : 1 Wrong Marks : 0.25

निम्नलिखित में से किसे भारतीय संविधान में 12 वें संवैधानिक संशोधन अधिनियम के माध्यम से जोड़ा गया था?

Options :

1. ✓ दमन और दीव

2. ✗ सिक्किम

3. ✗ मिजोरम

4. ✗ पुडुचेरी

Question Number : 76 Question Id : 54592712600 Question Type : MCQ Option Shuffling : Yes Display Question Number : Yes  
Single Line Question Option : No Option Orientation : Vertical

Correct Marks : 1 Wrong Marks : 0.25

The executive power of the state is vested in .....

Options :

1. ✗ Prime Minister

2. ✗ Chief Minister

3. ✓ Governor

4. ✗ Vice President

Question Number : 76 Question Id : 54592712600 Question Type : MCQ Option Shuffling : Yes Display Question Number : Yes  
Single Line Question Option : No Option Orientation : Vertical

Correct Marks : 1 Wrong Marks : 0.25

राज्य की कार्यकारी शक्ति \_\_\_\_\_ में निहित है।

Options :

1. ✗ प्रधानमंत्री

2. ✘ मुख्यमंत्री
3. ✔ राज्यपाल
4. ✘ उपराष्ट्रपति

Question Number : 77 Question Id : 54592712601 Question Type : MCQ Option Shuffling : Yes Display Question Number : Yes  
Single Line Question Option : No Option Orientation : Vertical

Correct Marks : 1 Wrong Marks : 0.25

Who appoints the Attorney General of India?

Options :

1. ✔ President
2. ✘ Prime Minister
3. ✘ Vice President
4. ✘ Speaker of Lok sabha

Question Number : 77 Question Id : 54592712601 Question Type : MCQ Option Shuffling : Yes Display Question Number : Yes  
Single Line Question Option : No Option Orientation : Vertical

Correct Marks : 1 Wrong Marks : 0.25

भारत के महान्यायवादी की नियुक्ति कौन करता है?

Options :

1. ✔ राष्ट्रपति
2. ✘ प्रधानमंत्री
3. ✘ उपराष्ट्रपति
4. ✘ लोक सभा अध्यक्ष

Question Number : 78 Question Id : 54592712602 Question Type : MCQ Option Shuffling : Yes Display Question Number : Yes  
Single Line Question Option : No Option Orientation : Vertical

Correct Marks : 1 Wrong Marks : 0.25

Play India Youth Games 2019 was held in \_\_\_\_\_.

Options :

1. ✘ Surat
2. ✔ Pune
3. ✘ New Delhi
4. ✘ Kolkata

Question Number : 78 Question Id : 54592712602 Question Type : MCQ Option Shuffling : Yes Display Question Number : Yes  
Single Line Question Option : No Option Orientation : Vertical

Correct Marks : 1 Wrong Marks : 0.25

खेलो इंडिया यूथ गेम्स 2019 \_\_\_\_\_ में हुई थी

Options :

1. ✘ सूरत
2. ✔ पुणे
3. ✘ नई दिल्ली
4. ✘ कोलकाता

Question Number : 79 Question Id : 54592712603 Question Type : MCQ Option Shuffling : Yes Display Question Number : Yes  
Single Line Question Option : No Option Orientation : Vertical

Correct Marks : 1 Wrong Marks : 0.25

World Women's Boxing Championship 2018 was held in \_\_\_\_\_.

Options :

- ✘ Mumbai
- ✘ Pune
- ✘ Chennai
- ✔ New Delhi

Question Number : 79 Question Id : 54592712603 Question Type : MCQ Option Shuffling : Yes Display Question Number : Yes  
Single Line Question Option : No Option Orientation : Vertical

Correct Marks : 1 Wrong Marks : 0.25

विश्व महिला मुक्केबाजी चैंपियनशिप 2018 \_\_\_\_\_ में आयोजित की गई थी।

Options :

- ✘ मुंबई
- ✘ पुणे
- ✘ चेन्नई
- ✔ नई दिल्ली

Question Number : 80 Question Id : 54592712604 Question Type : MCQ Option Shuffling : Yes Display Question Number : Yes  
Single Line Question Option : No Option Orientation : Vertical

Correct Marks : 1 Wrong Marks : 0.25

\_\_\_\_\_ became India's first judo medalist at the Olympic level in 2018.

Options :

- ✘ Ana Viktorija Puljiz
- ✘ Hima Das
- ✔ Thangjam Tababi Devi
- ✘ Mary Kom

Question Number : 80 Question Id : 54592712604 Question Type : MCQ Option Shuffling : Yes Display Question Number : Yes  
Single Line Question Option : No Option Orientation : Vertical

Correct Marks : 1 Wrong Marks : 0.25

2018 में ओलंपिक स्तर पर \_\_\_\_\_ भारत की पहली जूडो पदक विजेता बनीं।

Options :

- ✘ एना विक्टोरिजा पुलजिज
- ✘ हिमा दास
- ✔ थंगजाम तबाबी देवी
- ✘ मैरी कॉम

#### Arithmetic Ability 1

Group Number :	5
Group Id :	545927625
Group Maximum Duration :	0
Group Minimum Duration :	0
Revisit allowed for view? :	No
Revisit allowed for edit? :	No
Break time:	0
Group Marks:	20
Revisit allowed for group Instructions? :	Yes
Maximum Instruction Time:	0
Minimum Instruction Time:	0

Arithmetic Ability1

Section Id :	545927625
Section Number :	1
Section type :	Online
Mandatory or Optional:	Mandatory
Number of Questions:	20
Number of Questions to be attempted:	20
Section Marks:	20
Display Number Panel:	Yes
Group All Questions:	No

Sub-Section Number:	1
Sub-Section Id:	545927749
Question Shuffling Allowed :	Yes

Question Number : 81 Question Id : 54592712605 Question Type : MCQ Option Shuffling : Yes Display Question Number : Yes  
Single Line Question Option : No Option Orientation : Vertical

Correct Marks : 1 Wrong Marks : 0.25

How many numbers are there from 1 to 70, which are divisible by 9?

Options :

1. ✓ 7
2. ✗ 8
3. ✗ 6
4. ✗ 9

Question Number : 81 Question Id : 54592712605 Question Type : MCQ Option Shuffling : Yes Display Question Number : Yes  
Single Line Question Option : No Option Orientation : Vertical

Correct Marks : 1 Wrong Marks : 0.25

1 से 70 तक कितनी संख्याएँ हैं, जो 9 से विभाज्य हैं?

Options :

1. ✓ 7
2. ✗ 8
3. ✗ 6
4. ✗ 9

Question Number : 82 Question Id : 54592712606 Question Type : MCQ Option Shuffling : Yes Display Question Number : Yes  
Single Line Question Option : No Option Orientation : Vertical

Correct Marks : 1 Wrong Marks : 0.25

What is the value of  $\frac{\sqrt{3.61} + \sqrt{0.49}}{\sqrt{1.21} + \sqrt{1.69}}$  ?

Options :

1. ✗ 2/5
2. ✗ 1/3
3. ✓ 13/12
4. ✗ 1/6

Question Number : 82 Question Id : 54592712606 Question Type : MCQ Option Shuffling : Yes Display Question Number : Yes  
Single Line Question Option : No Option Orientation : Vertical

Correct Marks : 1 Wrong Marks : 0.25

$$\frac{\sqrt{3.61} + \sqrt{0.49}}{\sqrt{1.21} + \sqrt{1.69}} \text{ का मान क्या है?}$$

Options :

1. ✘ 2/5
2. ✘ 1/3
3. ✔ 13/12
4. ✘ 1/6

Question Number : 83 Question Id : 54592712607 Question Type : MCQ Option Shuffling : Yes Display Question Number : Yes  
Single Line Question Option : No Option Orientation : Vertical

Correct Marks : 1 Wrong Marks : 0.25

3 प्रकार के फूल हैं 3 प्रकारों के फूलों की संख्या क्रमशः 1044, 1247 तथा 348 हैं। फूलों को गुलदस्तों में इस प्रकार बांथा गया है कि किसी गुलदस्ते में 2 प्रकार के फूल ना मिलाये गये हों। यदि प्रत्येक गुलदस्ते में समान संख्या में फूल हों तथा प्रत्येक गुलदस्ते में फूल अधिकतम है, तो गुलदस्तों की संख्या क्या है?

Options :

1. ✘ 81
2. ✘ 85
3. ✘ 87
4. ✔ 91

Question Number : 83 Question Id : 54592712607 Question Type : MCQ Option Shuffling : Yes Display Question Number : Yes  
Single Line Question Option : No Option Orientation : Vertical

Correct Marks : 1 Wrong Marks : 0.25

There are 3 types of flowers. The number of three types of flowers are 1044, 1247 and 348. The flowers are packed in bunches such that no 2 types of flowers are mixed in any bunch. If each bunch has same number of flowers and the number of flowers in every bunch is maximum, then what is the number of bunches?

Options :

1. ✘ 81
2. ✘ 85
3. ✘ 87
4. ✔ 91

Question Number : 84 Question Id : 54592712608 Question Type : MCQ Option Shuffling : Yes Display Question Number : Yes  
Single Line Question Option : No Option Orientation : Vertical

Correct Marks : 1 Wrong Marks : 0.25

$$\text{If } A = \frac{1}{2} + \frac{1}{6} + \frac{1}{12}, B = \frac{1}{20} + \frac{1}{30} + \frac{1}{42} \text{ and } C = \frac{1}{56} + \frac{1}{72} + \frac{1}{90} \text{ What is the value of } (A + B + C)^4 ?$$

Options :

1. ✔ 0.6561
2. ✘ 0.6916
3. ✘ 0.7214
4. ✘ 0.5118

Question Number : 84 Question Id : 54592712608 Question Type : MCQ Option Shuffling : Yes Display Question Number : Yes  
Single Line Question Option : No Option Orientation : Vertical

Correct Marks : 1 Wrong Marks : 0.25

यदि  $A = \frac{1}{2} + \frac{1}{6} + \frac{1}{12}$ ,  $B = \frac{1}{20} + \frac{1}{30} + \frac{1}{42}$  तथा  $C = \frac{1}{56} + \frac{1}{72} + \frac{1}{90}$  तो  $(A+B+C)^4$  का मान क्या है?

Options :

1. ✓ 0.6561
2. ✗ 0.6916
3. ✗ 0.7214
4. ✗ 0.5118

Question Number : 85 Question Id : 54592712609 Question Type : MCQ Option Shuffling : Yes Display Question Number : Yes  
Single Line Question Option : No Option Orientation : Vertical

Correct Marks : 1 Wrong Marks : 0.25

Which of the following statement(s) is/are correct?

- I. 41651434 is divisible by 2, 4, 6 and 8.
- II. 39148762 is divisible by 3, 6, 9 and 12.
- III. 86413296 is divisible by 2, 3, 6 and 11.

Options :

1. ✗ I
2. ✗ II
3. ✗ III
4. ✓ None is correct

Question Number : 85 Question Id : 54592712609 Question Type : MCQ Option Shuffling : Yes Display Question Number : Yes  
Single Line Question Option : No Option Orientation : Vertical

Correct Marks : 1 Wrong Marks : 0.25

निम्नलिखित में से कौन सा/से कथन सही है/हैं?

- I. 41651434, 2, 4, 6 तथा 8 से विभाज्य है
- II. 39148762, 3, 6, 9 तथा 12 से विभाज्य है
- III. 86413296, 2, 3, 6 तथा 11 से विभाज्य है

Options :

1. ✗ I
2. ✗ II
3. ✗ III
4. ✓ कोई भी सही नहीं है

Question Number : 86 Question Id : 54592712610 Question Type : MCQ Option Shuffling : Yes Display Question Number : Yes  
Single Line Question Option : No Option Orientation : Vertical

Correct Marks : 1 Wrong Marks : 0.25

What is the value of  $42 + 9 \times 6 \times \{3 + 4 - (9 \times 4 \div 8 - 6 + 2)\}$ ?

Options :

1. ✗ 352
2. ✗ 743/2
3. ✓ 393
4. ✗ 641/2



Question Number : 86 Question Id : 54592712610 Question Type : MCQ Option Shuffling : Yes Display Question Number : Yes  
Single Line Question Option : No Option Orientation : Vertical

Correct Marks : 1 Wrong Marks : 0.25

$42 + 9 \times 6 \times \{3 + 4 - (9 \times 4 \div 8 - 6 + 2)\}$  का मान क्या है?

Options :

1. ✘ 352
2. ✘ 743/2
3. ✔ 393
4. ✘ 641/2

Question Number : 87 Question Id : 54592712611 Question Type : MCQ Option Shuffling : Yes Display Question Number : Yes  
Single Line Question Option : No Option Orientation : Vertical

Correct Marks : 1 Wrong Marks : 0.25

K when divided by 13, 4 and 8 leaves a remainder 3 in each case. What can be the value of K?

- I. 1979
- II. 2915
- III. 3955
- IV. 5257

Options :

1. ✘ I and II
2. ✘ III and IV
3. ✔ I, II, III
4. ✘ IV, I, II

Question Number : 87 Question Id : 54592712611 Question Type : MCQ Option Shuffling : Yes Display Question Number : Yes  
Single Line Question Option : No Option Orientation : Vertical

Correct Marks : 1 Wrong Marks : 0.25

K, 13, 4 तथा 8 से विभाजित करने पर प्रत्येक स्थिति में शेषफल 3 छोड़ता है। K का मान क्या हो सकता है?

- I. 1979
- II. 2915
- III. 3955
- IV. 5257

Options :

1. ✘ I तथा II
2. ✘ III तथा IV
3. ✔ I, II, III
4. ✘ IV, I, II

Question Number : 88 Question Id : 54592712612 Question Type : MCQ Option Shuffling : Yes Display Question Number : Yes  
Single Line Question Option : No Option Orientation : Vertical

Correct Marks : 1 Wrong Marks : 0.25

What is the value of  $(0.5)^3 \div (0.25) + (0.14)^3 \div (0.02) + (0.9)^4 \div (0.03) + (0.24)^2 \div (0.02)^2$ ?

Options :

1. ✘ 175.5126
2. ✘ 170.5072
3. ✔ 166.5072
4. ✘ 185.5126

Question Number : 88 Question Id : 54592712612 Question Type : MCQ Option Shuffling : Yes Display Question Number : Yes  
Single Line Question Option : No Option Orientation : Vertical

Correct Marks : 1 Wrong Marks : 0.25

$(0.5)^3 \div (0.25) + (0.14)^3 \div (0.02) + (0.9)^4 \div (0.03) + (0.24)^2 \div (0.02)^2$  का मान क्या है?

Options :

1. ✘ 175.5126
2. ✘ 170.5072
3. ✔ 166.5072
4. ✘ 185.5126

Question Number : 89 Question Id : 54592712613 Question Type : MCQ Option Shuffling : Yes Display Question Number : Yes  
Single Line Question Option : No Option Orientation : Vertical

Correct Marks : 1 Wrong Marks : 0.25

If  $A = \frac{15}{16} - \frac{1}{6} + \frac{7}{8}$ ,  $B = \frac{5}{2} + \frac{9}{6} - \frac{2}{8}$  and  $C = \frac{2}{8} \times \frac{1}{3} + \frac{5}{8}$ , then what is the value of  $(A + B) \div C$ ?

Options :

1. ✘ 193/17
2. ✘ 277/34
3. ✔ 259/34
4. ✘ 161/17

Question Number : 89 Question Id : 54592712613 Question Type : MCQ Option Shuffling : Yes Display Question Number : Yes  
Single Line Question Option : No Option Orientation : Vertical

Correct Marks : 1 Wrong Marks : 0.25

यदि  $A = \frac{15}{16} - \frac{1}{6} + \frac{7}{8}$ ,  $B = \frac{5}{2} + \frac{9}{6} - \frac{2}{8}$  तथा  $C = \frac{2}{8} \times \frac{1}{3} + \frac{5}{8}$  है, तो  $(A + B) \div C$  का मान क्या है?

Options :

1. ✘ 193/17
2. ✘ 277/34
3. ✔ 259/34
4. ✘ 161/17

Question Number : 90 Question Id : 54592712614 Question Type : MCQ Option Shuffling : Yes Display Question Number : Yes  
Single Line Question Option : No Option Orientation : Vertical

Correct Marks : 1 Wrong Marks : 0.25

If A = Highest Common Factor of  $(7/8)$ ,  $(6/5)$ ,  $(9/2)$  and B = Least Common Factor of  $(2/5)$ ,  $(3/10)$ , then what is the value of  $(A + B)$ ?

Options :

1. ✘ 27/40
2. ✘ 47/40
3. ✔ 49/40
4. ✘ 39/40

Question Number : 90 Question Id : 54592712614 Question Type : MCQ Option Shuffling : Yes Display Question Number : Yes  
Single Line Question Option : No Option Orientation : Vertical

Correct Marks : 1 Wrong Marks : 0.25

यदि A =  $(7/8)$ ,  $(6/5)$ ,  $(9/2)$  का महत्तम समापवर्तक तथा B =  $(2/5)$ ,  $(3/10)$  का लघुत्तम समापवर्त्य है, तो  $(A + B)$  का मान क्या है?

Options :

1. ✘ 27/40
2. ✘ 47/40
3. ✔ 49/40
4. ✘ 39/40

Question Number : 91 Question Id : 54592712615 Question Type : MCQ Option Shuffling : Yes Display Question Number : Yes  
Single Line Question Option : No Option Orientation : Vertical

Correct Marks : 1 Wrong Marks : 0.25

What will be the average of the first eight positive even numbers?

Options :

1. ✘ 11
2. ✔ 9
3. ✘ 7
4. ✘ 5

Question Number : 91 Question Id : 54592712615 Question Type : MCQ Option Shuffling : Yes Display Question Number : Yes  
Single Line Question Option : No Option Orientation : Vertical

Correct Marks : 1 Wrong Marks : 0.25

प्रथम आठ धनात्मक सम संख्याओं का औसत क्या होगा?

Options :

1. ✘ 11
2. ✔ 9
3. ✘ 7
4. ✘ 5

Question Number : 92 Question Id : 54592712616 Question Type : MCQ Option Shuffling : Yes Display Question Number : Yes  
Single Line Question Option : No Option Orientation : Vertical

Correct Marks : 1 Wrong Marks : 0.25

After allowing a discount of 12 percent on an article, Manoj incurs a loss of 56 percent. If the cost price of this article is Rs 250, then what is the marked price of this article?

Options :

1. ✔ Rs 125
2. ✘ Rs 175
3. ✘ Rs 135
4. ✘ Rs 145

Question Number : 92 Question Id : 54592712616 Question Type : MCQ Option Shuffling : Yes Display Question Number : Yes  
Single Line Question Option : No Option Orientation : Vertical

Correct Marks : 1 Wrong Marks : 0.25

एक वस्तु पर 12 प्रतिशत की छूट देने के पश्चात, मनोज को 56 प्रतिशत की हानि होती है। यदि इस वस्तु का क्रय मूल्य 250 रुपये है, तो इस वस्तु का अंकित मूल्य क्या है?

Options :

1. ✔ 125 रुपये
2. ✘ 175 रुपये
3. ✘ 135 रुपये
4. ✘ 145 रुपये

Question Number : 93 Question Id : 54592712617 Question Type : MCQ Option Shuffling : Yes Display Question Number : Yes  
Single Line Question Option : No Option Orientation : Vertical

Correct Marks : 1 Wrong Marks : 0.25

The average of a set of three consecutive natural numbers is 19. The average of a set of another five consecutive natural numbers is 34. What is the sum of the largest numbers in both the given sets?

Options :

1. ✘ 58
2. ✘ 54
3. ✘ 62
4. ✔ 56

Question Number : 93 Question Id : 54592712617 Question Type : MCQ Option Shuffling : Yes Display Question Number : Yes  
Single Line Question Option : No Option Orientation : Vertical

Correct Marks : 1 Wrong Marks : 0.25

तीन क्रमागत प्राकृतिक संख्याओं के एक समुच्चय का औसत 19 है अन्य पाँच क्रमागत प्राकृतिक संख्याओं के एक समुच्चय का औसत 34 है दिए गए दोनों समुच्चयों में सबसे बड़ी संख्याओं का योग क्या है?

Options :

1. ✘ 58
2. ✘ 54
3. ✘ 62
4. ✔ 56

Question Number : 94 Question Id : 54592712618 Question Type : MCQ Option Shuffling : Yes Display Question Number : Yes  
Single Line Question Option : No Option Orientation : Vertical

Correct Marks : 1 Wrong Marks : 0.25

If 96 is subtracted from 65 percent of a number, then the result is 112. What is the number of the number?

Options :

1. ✘ 340
2. ✘ 280
3. ✔ 320
4. ✘ 360

Question Number : 94 Question Id : 54592712618 Question Type : MCQ Option Shuffling : Yes Display Question Number : Yes  
Single Line Question Option : No Option Orientation : Vertical

Correct Marks : 1 Wrong Marks : 0.25

यदि किसी संख्या के 65 प्रतिशत में से 96 घटाया जाए, तो परिणाम 112 आता है संख्या का मान क्या है?

Options :

1. ✘ 340
2. ✘ 280
3. ✔ 320
4. ✘ 360

Question Number : 95 Question Id : 54592712619 Question Type : MCQ Option Shuffling : Yes Display Question Number : Yes  
Single Line Question Option : No Option Orientation : Vertical

Correct Marks : 1 Wrong Marks : 0.25

If M exceeds N by 50 percent and N is 20 percent less than P, then what is M : P?

Options :

1. ✘ 3 : 2
2. ✘ 7 : 4

3. ✖ 3 : 5

4. ✔ 6 : 5

Question Number : 95 Question Id : 54592712619 Question Type : MCQ Option Shuffling : Yes Display Question Number : Yes Single Line Question Option : No Option Orientation : Vertical

Correct Marks : 1 Wrong Marks : 0.25

यदि M, N से 50 प्रतिशत अधिक है तथा N, P से 20 प्रतिशत कम है, तो M : P क्या है?

Options :

1. ✖ 3 : 2

2. ✖ 7 : 4

3. ✖ 3 : 5

4. ✔ 6 : 5

Question Number : 96 Question Id : 54592712620 Question Type : MCQ Option Shuffling : Yes Display Question Number : Yes Single Line Question Option : No Option Orientation : Vertical

Correct Marks : 1 Wrong Marks : 0.25

J = 16.67 percent of 138 and G = 12.5 percent of 232. Which of the following is true?

Options :

1. ✖  $J = G - 4$

2. ✖  $J = 0.75G$

3. ✔  $J = G - 6$

4. ✖  $J = 0.9G$

Question Number : 96 Question Id : 54592712620 Question Type : MCQ Option Shuffling : Yes Display Question Number : Yes Single Line Question Option : No Option Orientation : Vertical

Correct Marks : 1 Wrong Marks : 0.25

J = 138 का 16.67 प्रतिशत तथा G = 232 का 12.5 प्रतिशत है। निम्नलिखित में से कौन सा सत्य है?

Options :

1. ✖  $J = G - 4$

2. ✖  $J = 0.75G$

3. ✔  $J = G - 6$

4. ✖  $J = 0.9G$

Question Number : 97 Question Id : 54592712621 Question Type : MCQ Option Shuffling : Yes Display Question Number : Yes Single Line Question Option : No Option Orientation : Vertical

Correct Marks : 1 Wrong Marks : 0.25

The cost price and selling price of an article is Rs 400 and Rs 320 respectively. What is the ratio of loss incurred on this article to cost price?

Options :

1. ✖ 5 : 1

2. ✔ 1 : 5

3. ✖ 1 : 4

4. ✖ 4 : 1

Question Number : 97 Question Id : 54592712621 Question Type : MCQ Option Shuffling : Yes Display Question Number : Yes Single Line Question Option : No Option Orientation : Vertical

Correct Marks : 1 Wrong Marks : 0.25

एक वस्तु का क्रय मूल्य तथा विक्रय मूल्य क्रमशः 400 रुपये तथा 320 रुपये है। इस वस्तु पर हुई हानि का क्रय मूल्य से क्या अनुपात है?

Options :

1. ✘ 5 : 1
2. ✔ 1 : 5
3. ✘ 1 : 4
4. ✘ 4 : 1

Question Number : 98 Question Id : 54592712622 Question Type : MCQ Option Shuffling : Yes Display Question Number : Yes Single Line Question Option : No Option Orientation : Vertical

Correct Marks : 1 Wrong Marks : 0.25

The cost price of article M and K is same. Article M is sold at a profit of 40 percent. Article K is sold at a loss of 40 percent. Selling price of article K is Rs 7800. What is the selling price of article M?

Options :

1. ✘ Rs 21300
2. ✘ Rs 18800
3. ✘ Rs 19600
4. ✔ Rs 18200

Question Number : 98 Question Id : 54592712622 Question Type : MCQ Option Shuffling : Yes Display Question Number : Yes Single Line Question Option : No Option Orientation : Vertical

Correct Marks : 1 Wrong Marks : 0.25

वस्तु M तथा K का क्रय मूल्य समान है। वस्तु M को 40 प्रतिशत के लाभ पर बेचा गया है। वस्तु K को 40 प्रतिशत की हानि पर बेचा गया है। वस्तु K का विक्रय मूल्य 7800 रुपये है। वस्तु M का विक्रय मूल्य क्या है?

Options :

1. ✘ 21300 रुपये
2. ✘ 18800 रुपये
3. ✘ 19600 रुपये
4. ✔ 18200 रुपये

Question Number : 99 Question Id : 54592712623 Question Type : MCQ Option Shuffling : Yes Display Question Number : Yes Single Line Question Option : No Option Orientation : Vertical

Correct Marks : 1 Wrong Marks : 0.25

Rajesh purchased 40 dozen pencils at the rate of Rs 55 per dozen. He sold 25 dozen at 40 percent profit and the remaining 15 dozen at 60 percent profit. What is his total profit percentage?

Options :

1. ✘ 35 percent
2. ✘ 32.5 percent
3. ✘ 55 percent
4. ✔ 47.5 percent

Question Number : 99 Question Id : 54592712623 Question Type : MCQ Option Shuffling : Yes Display Question Number : Yes Single Line Question Option : No Option Orientation : Vertical

Correct Marks : 1 Wrong Marks : 0.25

राजेश ने 40 दर्जन पेंसिल 55 रुपये प्रति दर्जन की दर से खरीदी। उसने 25 दर्जन 40 प्रतिशत के लाभ पर बेची तथा शेष 15 दर्जन 60 प्रतिशत के लाभ पर। उसका कुल लाभ प्रतिशत क्या है?

Options :

1. ✘ 35 प्रतिशत
2. ✘ 32.5 प्रतिशत
3. ✘ 55 प्रतिशत
4. ✔ 47.5 प्रतिशत

Question Number : 100 Question Id : 54592712624 Question Type : MCQ Option Shuffling : Yes Display Question Number : Yes  
Single Line Question Option : No Option Orientation : Vertical

Correct Marks : 1 Wrong Marks : 0.25

The ratio of A1, A2 and A3 is 2 : 3 : 4 respectively. If their sum is 108, then what is the difference between A1 and A3?

Options :

1. ✘ 16

2. ✔ 24

3. ✘ 20

4. ✘ 28

Question Number : 100 Question Id : 54592712624 Question Type : MCQ Option Shuffling : Yes Display Question Number : Yes  
Single Line Question Option : No Option Orientation : Vertical

Correct Marks : 1 Wrong Marks : 0.25

A1, A2 तथा A3 का अनुपात क्रमशः 2 : 3 : 4 है। यदि उनका योग 108 है, तो A1 तथा A3 के मध्य अंतर क्या है?

Options :

1. ✘ 16

2. ✔ 24

3. ✘ 20

4. ✘ 28

#### Arithmetic Ability2

Group Number :	6
Group Id :	545927626
Group Maximum Duration :	0
Group Minimum Duration :	0
Revisit allowed for view? :	No
Revisit allowed for edit? :	No
Break time:	0
Group Marks:	20
Revisit allowed for group Instructions? :	Yes
Maximum Instruction Time:	0
Minimum Instruction Time:	0

#### Arithmetic Ability2

Section Id :	545927626
Section Number :	1
Section type :	Online
Mandatory or Optional:	Mandatory
Number of Questions:	20
Number of Questions to be attempted:	20
Section Marks:	20
Display Number Panel:	Yes
Group All Questions:	No

Sub-Section Number:	1
Sub-Section Id:	545927750

Question Number : 101 Question Id : 54592712625 Question Type : MCQ Option Shuffling : Yes Display Question Number : Yes  
Single Line Question Option : No Option Orientation : Vertical

Correct Marks : 1 Wrong Marks : 0.25

The angles of a triangle are in the ratio 3 : 7 : 8. What is the largest angle of the triangle?

Options :

1. ✘ 60°
2. ✘ 90°
3. ✔ 80°
4. ✘ 70°

Question Number : 101 Question Id : 54592712625 Question Type : MCQ Option Shuffling : Yes Display Question Number : Yes  
Single Line Question Option : No Option Orientation : Vertical

Correct Marks : 1 Wrong Marks : 0.25

एक त्रिभुज के कोण 3 : 7 : 8 के अनुपात में हैं। त्रिभुज का सबसे बड़ा कोण क्या है?

Options :

1. ✘ 60°
2. ✘ 90°
3. ✔ 80°
4. ✘ 70°

Question Number : 102 Question Id : 54592712626 Question Type : MCQ Option Shuffling : Yes Display Question Number : Yes  
Single Line Question Option : No Option Orientation : Vertical

Correct Marks : 1 Wrong Marks : 0.25

Three partners X, Y and Z start a business. Twice of X's capital is equal to thrice of Y's capital and Y's capital is four times of Z's capital. If the total profit after one year is Rs 13200, then what is the profit share of Y?

Options :

1. ✘ Rs 3600
2. ✔ Rs 4800
3. ✘ Rs 5200
4. ✘ Rs 5400

Question Number : 102 Question Id : 54592712626 Question Type : MCQ Option Shuffling : Yes Display Question Number : Yes  
Single Line Question Option : No Option Orientation : Vertical

Correct Marks : 1 Wrong Marks : 0.25

तीन साझेदारों X, Y तथा Z ने एक व्यापार शुरू किया। X के निवेश का दो गुना Y के निवेश के तीन गुना के समान है तथा Y का निवेश Z के निवेश का चार गुना है। यदि वर्ष के अंत पर कुल लाभ 13200 रुपये है, तो Y का लाभ का हिस्सा क्या है?

Options :

1. ✘ 3600 रुपये
2. ✔ 4800 रुपये
3. ✘ 5200 रुपये
4. ✘ 5400 रुपये

Question Number : 103 Question Id : 54592712627 Question Type : MCQ Option Shuffling : Yes Display Question Number : Yes  
Single Line Question Option : No Option Orientation : Vertical

Correct Marks : 1 Wrong Marks : 0.25

Rs 21000 gives Rs 9450 simple interest in 3 years. What is the rate of interest per annum?

Options :

1. ✘ 16 percent



2. ✘ 18 percent
3. ✘ 12 percent
4. ✔ 15 percent

Question Number : 103 Question Id : 54592712627 Question Type : MCQ Option Shuffling : Yes Display Question Number : Yes  
Single Line Question Option : No Option Orientation : Vertical

Correct Marks : 1 Wrong Marks : 0.25

21000 रुपये 3 वर्षों में 9450 रुपये साधारण ब्याज देते हैं। प्रति वर्ष ब्याज की दर क्या है?

Options :

1. ✘ 16 प्रतिशत
2. ✘ 18 प्रतिशत
3. ✘ 12 प्रतिशत
4. ✔ 15 प्रतिशत

Question Number : 104 Question Id : 54592712628 Question Type : MCQ Option Shuffling : Yes Display Question Number : Yes  
Single Line Question Option : No Option Orientation : Vertical

Correct Marks : 1 Wrong Marks : 0.25

Rs 25000 is invested at simple interest in 2 parts. One part is invested at a rate of 12 percent per annum and the other part is invested at a rate of 18 percent per annum. If the total interest after 3 years is Rs 11700, then what is the value of the 2 parts?

Options :

1. ✔ Rs 10000, Rs 15000
2. ✘ Rs 12000, Rs 13000
3. ✘ Rs 14000, Rs 11000
4. ✘ Rs 8000, Rs 17000

Question Number : 104 Question Id : 54592712628 Question Type : MCQ Option Shuffling : Yes Display Question Number : Yes  
Single Line Question Option : No Option Orientation : Vertical

Correct Marks : 1 Wrong Marks : 0.25

25000 रुपये को 2 भागों में साधारण ब्याज पर निवेश किया गया। एक भाग को 12 प्रतिशत प्रति वर्ष की दर पर निवेश किया गया है तथा दूसरे भाग को 18 प्रतिशत प्रति वर्ष की दर पर निवेश किया गया है। यदि 3 वर्ष का कुल ब्याज 11700 रुपये है, तो 2 भागों का मान क्या है?

Options :

1. ✔ 10000 रुपये, 15000 रुपये
2. ✘ 12000 रुपये, 13000 रुपये
3. ✘ 14000 रुपये, 11000 रुपये
4. ✘ 8000 रुपये, 17000 रुपये

Question Number : 105 Question Id : 54592712629 Question Type : MCQ Option Shuffling : Yes Display Question Number : Yes  
Single Line Question Option : No Option Orientation : Vertical

Correct Marks : 1 Wrong Marks : 0.25

50000 रुपये को चक्रवृद्धि ब्याज पर रखा जाता है। यदि ब्याज की दर 8 प्रतिशत प्रति वर्ष (वार्षिक संयोजन पर) है, तो 3 वर्ष का ब्याज क्या होगा?

Options :

1. ✘ 12485.6 रुपये
2. ✔ 12985.6 रुपये
3. ✘ 11845.4 रुपये
4. ✘ 13408.2 रुपये

Question Number : 105 Question Id : 54592712629 Question Type : MCQ Option Shuffling : Yes Display Question Number : Yes  
Single Line Question Option : No Option Orientation : Vertical

Correct Marks : 1 Wrong Marks : 0.25

Rs 50000 is kept at compound interest. If the rate of interest is 8 percent per annum (compounding annually), then what is the interest for 3 years?

Options :

- ✘ Rs 12485.6
- ✔ Rs 12985.6
- ✘ Rs 11845.4
- ✘ Rs 13408.2

Question Number : 106 Question Id : 54592712630 Question Type : MCQ Option Shuffling : Yes Display Question Number : Yes  
Single Line Question Option : No Option Orientation : Vertical

Correct Marks : 1 Wrong Marks : 0.25

The speed of a train is 99 km/hr. If the length of the train is 580 metres, then how much time will it take to completely cross a platform 1180 meters long?

Options :

- ✘ 56 seconds
- ✔ 64 seconds
- ✘ 81 seconds
- ✘ 38 seconds

Question Number : 106 Question Id : 54592712630 Question Type : MCQ Option Shuffling : Yes Display Question Number : Yes  
Single Line Question Option : No Option Orientation : Vertical

Correct Marks : 1 Wrong Marks : 0.25

एक रेलगाड़ी की गति 99 कि.मी./घंटा है। यदि रेलगाड़ी की लम्बाई 580 मीटर है, तो वह 1180 मीटर लम्बे प्लेटफॉर्म को कितने समय में पूरा पार कर लेगी?

Options :

- ✘ 56 सेकण्ड
- ✔ 64 सेकण्ड
- ✘ 81 सेकण्ड
- ✘ 38 सेकण्ड

Question Number : 107 Question Id : 54592712631 Question Type : MCQ Option Shuffling : Yes Display Question Number : Yes  
Single Line Question Option : No Option Orientation : Vertical

Correct Marks : 1 Wrong Marks : 0.25

A person goes from Delhi to Agra at a speed of 120 km/hr. He comes back from Agra to Delhi at a speed of  $x$  km/hr. If his average speed is  $1200/17$  km/hr, then what is the value of  $x$ ?

Options :

- ✘ 40 km/hr
- ✘ 45 km/hr
- ✔ 50 km/hr
- ✘ 60 km/hr

Question Number : 107 Question Id : 54592712631 Question Type : MCQ Option Shuffling : Yes Display Question Number : Yes  
Single Line Question Option : No Option Orientation : Vertical

Correct Marks : 1 Wrong Marks : 0.25

एक व्यक्ति दिल्ली से आगरा 120 कि.मी./घंटा की गति से जाता है। वह आगरा से दिल्ली  $x$  कि.मी./घंटा की गति से वापस आता है। यदि उसकी औसत गति  $1200/17$  कि.मी./घंटा है, तो  $x$  का मान क्या है?

Options :

- ✘ 40 कि.मी./घंटा
- ✘ 45 कि.मी./घंटा

3. ✓ 50 कि.मी./घंटा
4. ✗ 60 कि.मी./घंटा

Question Number : 108 Question Id : 54592712632 Question Type : MCQ Option Shuffling : Yes Display Question Number : Yes  
Single Line Question Option : No Option Orientation : Vertical

Correct Marks : 1 Wrong Marks : 0.25

A 640 metres long train crosses a man walking in the opposite direction in 10 seconds. If the speed of the train is 3 times the speed of the man, then what is the speed of the train?

Options :

1. ✗ 114.8 km/hr
2. ✗ 120.6 km/hr
3. ✗ 148.4 km/hr
4. ✓ 172.8 km/hr

Question Number : 108 Question Id : 54592712632 Question Type : MCQ Option Shuffling : Yes Display Question Number : Yes  
Single Line Question Option : No Option Orientation : Vertical

Correct Marks : 1 Wrong Marks : 0.25

एक 640 मीटर लम्बी रेलगाड़ी विपरीत दिशा में चल रहे एक पुरुष को 10 सेकण्ड में पार कर लेती है। यदि रेलगाड़ी की गति पुरुष की गति की 3 गुना है, तो रेलगाड़ी की गति क्या है?

Options :

1. ✗ 114.8 कि.मी./घंटा
2. ✗ 120.6 कि.मी./घंटा
3. ✗ 148.4 कि.मी./घंटा
4. ✓ 172.8 कि.मी./घंटा

Question Number : 109 Question Id : 54592712633 Question Type : MCQ Option Shuffling : Yes Display Question Number : Yes  
Single Line Question Option : No Option Orientation : Vertical

Correct Marks : 1 Wrong Marks : 0.25

Raman and Raghav working together can complete a work in 24 days. With help of Raj, they can do the same work in 20 days. In how many days can Raj alone complete the same work?

Options :

1. ✗ 60
2. ✓ 120
3. ✗ 90
4. ✗ 80

Question Number : 109 Question Id : 54592712633 Question Type : MCQ Option Shuffling : Yes Display Question Number : Yes  
Single Line Question Option : No Option Orientation : Vertical

Correct Marks : 1 Wrong Marks : 0.25

रमन तथा राघव साथ मिलकर एक कार्य को 24 दिन में कर सकते हैं। राज की सहायता से वह उसी कार्य को 20 दिन में कर सकते हैं। राज अकेला उसी कार्य को कितने दिन में कर सकता है?

Options :

1. ✗ 60
2. ✓ 120
3. ✗ 90
4. ✗ 80

Question Number : 110 Question Id : 54592712634 Question Type : MCQ Option Shuffling : Yes Display Question Number : Yes  
Single Line Question Option : No Option Orientation : Vertical

Correct Marks : 1 Wrong Marks : 0.25

A completes a work in 8 days working 5 hours a day. B completes the same work in 15 days working 4 hours a day. If they together work 6 hours a day, then in how many days the work gets completed?

Options :

1. ✘ 3
2. ✔ 4
3. ✘  $3\frac{1}{2}$
4. ✘  $4\frac{1}{2}$

Question Number : 110 Question Id : 54592712634 Question Type : MCQ Option Shuffling : Yes Display Question Number : Yes  
Single Line Question Option : No Option Orientation : Vertical

Correct Marks : 1 Wrong Marks : 0.25

A एक कार्य को प्रतिदिन 5 घंटे कार्य करते हुए 8 दिन में पूरा कर लेता है। B उसी कार्य को प्रतिदिन 4 घंटे कार्य करते हुए 15 दिन में पूरा कर लेता है। यदि वह प्रतिदिन 6 घंटे साथ कार्य करते हैं, तो कार्य कितने दिन में पूरा हो जाएगा?

Options :

1. ✘ 3
2. ✔ 4
3. ✘  $3\frac{1}{2}$
4. ✘  $4\frac{1}{2}$

Question Number : 111 Question Id : 54592712635 Question Type : MCQ Option Shuffling : Yes Display Question Number : Yes  
Single Line Question Option : No Option Orientation : Vertical

Correct Marks : 1 Wrong Marks : 0.25

A, B and C together can complete half of a work in 4 days. B and C together can finish  $\frac{3}{10}$  of the same work in 4 days. How much time will A take to complete the whole work alone?

Options :

1. ✘ 10 days
2. ✔ 20 days
3. ✘ 15 days
4. ✘ 24 days

Question Number : 111 Question Id : 54592712635 Question Type : MCQ Option Shuffling : Yes Display Question Number : Yes  
Single Line Question Option : No Option Orientation : Vertical

Correct Marks : 1 Wrong Marks : 0.25

A, B तथा C मिलकर एक कार्य का आधा, 4 दिन में पूरा कर सकते हैं। B तथा C मिलकर एक कार्य का  $\frac{3}{10}$ , 4 दिन में पूरा कर सकते हैं। A अकेला पूरा कार्य को करने में कितना समय लेगा?

Options :

1. ✘ 10 दिन
2. ✔ 20 दिन
3. ✘ 15 दिन
4. ✘ 24 दिन

Question Number : 112 Question Id : 54592712636 Question Type : MCQ Option Shuffling : Yes Display Question Number : Yes  
Single Line Question Option : No Option Orientation : Vertical

Correct Marks : 1 Wrong Marks : 0.25

The radius of a solid cylinder is 21 cm and its height is 30 cm. What is the cost of painting the curved surface of the cylinder at the rate of Rs 10 per  $\text{cm}^2$ ?

Options :

1. ✘ Rs 42800

2. ✓ Rs 39600
3. ✗ Rs 44200
4. ✗ Rs 36800

Question Number : 112 Question Id : 54592712636 Question Type : MCQ Option Shuffling : Yes Display Question Number : Yes  
Single Line Question Option : No Option Orientation : Vertical

Correct Marks : 1 Wrong Marks : 0.25

एक ठोस बेलन की त्रिज्या 21 से.मी. तथा उसकी ऊँचाई 30 से.मी. है। 10 रुपये प्रति से.मी.<sup>2</sup> की दर से उसके वक्र पृष्ठ को रंगने का मूल्य क्या है?

Options :

1. ✗ 42800 रुपये
2. ✓ 39600 रुपये
3. ✗ 44200 रुपये
4. ✗ 36800 रुपये

Question Number : 113 Question Id : 54592712637 Question Type : MCQ Option Shuffling : Yes Display Question Number : Yes  
Single Line Question Option : No Option Orientation : Vertical

Correct Marks : 1 Wrong Marks : 0.25

The total surface area of a cube is  $(243/8) \text{ cm}^2$ . What is the volume of the cube?

Options :

1. ✗  $\frac{1000}{343} \text{ cm}^3$
2. ✓  $\frac{729}{64} \text{ cm}^3$
3. ✗  $\frac{512}{27} \text{ cm}^3$
4. ✗  $\frac{1331}{64} \text{ cm}^3$

Question Number : 113 Question Id : 54592712637 Question Type : MCQ Option Shuffling : Yes Display Question Number : Yes  
Single Line Question Option : No Option Orientation : Vertical

Correct Marks : 1 Wrong Marks : 0.25

एक घन का कुल पृष्ठीय क्षेत्रफल  $(243/8)$  से.मी.<sup>2</sup> है। घन का आयतन क्या है?

Options :

1. ✘  $\frac{1000}{343}$  से.मी.<sup>3</sup>

2. ✔  $\frac{729}{64}$  से.मी.<sup>3</sup>

3. ✘  $\frac{512}{27}$  से.मी.<sup>3</sup>

4. ✘  $\frac{1331}{64}$  से.मी.<sup>3</sup>

Question Number : 114 Question Id : 54592712638 Question Type : MCQ Option Shuffling : Yes Display Question Number : Yes  
Single Line Question Option : No Option Orientation : Vertical

Correct Marks : 1 Wrong Marks : 0.25

The outer and inner radius of a hollow spherical metallic ball is 6 cm and 4 cm respectively. What is the volume of the ball?

Options :

1. ✔  $\frac{13376}{21}$  cm<sup>2</sup>

2. ✘  $\frac{11276}{21}$  cm<sup>2</sup>

3. ✘  $\frac{14166}{21}$  cm<sup>2</sup>

4. ✘  $\frac{13576}{21}$  cm<sup>2</sup>

Question Number : 114 Question Id : 54592712638 Question Type : MCQ Option Shuffling : Yes Display Question Number : Yes  
Single Line Question Option : No Option Orientation : Vertical

Correct Marks : 1 Wrong Marks : 0.25

एक खोखली धातु की गोलाकार गेंद की बाह्य तथा अंतः त्रिज्या क्रमशः 6 से.मी तथा 4 से.मी. है। गेंद का आयतन क्या है?

Options :

1. ✔  $\frac{13376}{21}$  से.मी.<sup>2</sup>

2. ✘  $\frac{11276}{21}$  से.मी.<sup>2</sup>

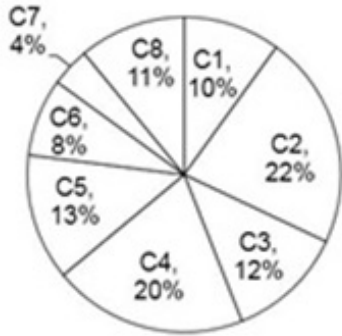
3. ✘  $\frac{14166}{21}$  से.मी.<sup>2</sup>

4. ✘  $\frac{13576}{21}$  से.मी.<sup>2</sup>

Question Number : 115 Question Id : 54592712639 Question Type : MCQ Option Shuffling : Yes Display Question Number : Yes  
Single Line Question Option : No Option Orientation : Vertical

Correct Marks : 1 Wrong Marks : 0.25

The pie chart given below shows the number of foreigners who visited Taj Mahal from different countries. The number of foreigners visited Taj Mahal from a particular country are shown as a percentage of the total number of foreigners visited the Taj Mahal.



What is the central angle formed by the sector for C4?

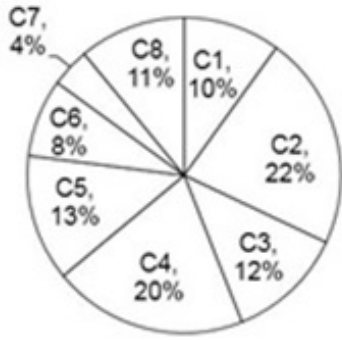
Options :

1. ✔ 72°
2. ✘ 36.8°
3. ✘ 144°
4. ✘ 56.2°

Question Number : 115 Question Id : 54592712639 Question Type : MCQ Option Shuffling : Yes Display Question Number : Yes  
Single Line Question Option : No Option Orientation : Vertical

Correct Marks : 1 Wrong Marks : 0.25

नीचे दिया गया वृत्त चित्र विभिन्न देशों से ताज़महल जाने वाले विदेशियों की संख्या को दर्शाता है। एक विशिष्ट देश से ताज़महल जाने वाले विदेशियों की संख्या को, ताज़महल जाने वाले विदेशियों की कुल संख्या के प्रतिशत के रूप में दर्शाया गया है।



C4 के खण्ड द्वारा बनाया गया केंद्रीय कोण क्या है?

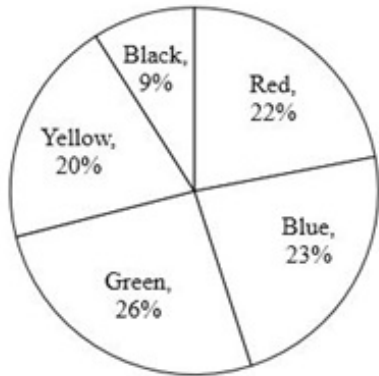
Options :

1. ✓ 72°
2. ✗ 36.8°
3. ✗ 144°
4. ✗ 56.2°

Question Number : 116 Question Id : 54592712640 Question Type : MCQ Option Shuffling : Yes Display Question Number : Yes Single Line Question Option : No Option Orientation : Vertical

Correct Marks : 1 Wrong Marks : 0.25

The pie chart given below shows the number of bikes of different colours in a showroom. The number of bikes of a particular colour are shown as a percentage of number of the total bikes in the showroom.



If the total number of bikes are 4400, then the number of red colour bikes are how much less than the number of green colour bikes?

Options :

1. ✗ 126
2. ✗ 136
3. ✗ 156
4. ✓ 176

Question Number : 116 Question Id : 54592712640 Question Type : MCQ Option Shuffling : Yes Display Question Number : Yes Single Line Question Option : No Option Orientation : Vertical

Correct Marks : 1 Wrong Marks : 0.25



नीचे दिया गया वृत्त चित्र एक शोरूम में विभिन्न रंग की बाईकों की संख्या को दर्शाता है। एक विशिष्ट रंग की बाईकों की संख्या को शोरूम में कुल बाईकों की संख्या के प्रतिशत के रूप में दर्शाया गया है।



यदि बाईकों की कुल संख्या 4400 है, तो लाल रंग की बाईकों की संख्या हरे रंग की बाईकों की संख्या से कितनी कम है?

Options :

- ✘ 126
- ✘ 136
- ✘ 156
- ✔ 176

Question Number : 117 Question Id : 54592712641 Question Type : MCQ Option Shuffling : Yes Display Question Number : Yes Single Line Question Option : No Option Orientation : Vertical

Correct Marks : 1 Wrong Marks : 0.25

The table given below shows the temperature of a city for 10 days of a month.

Days	Temperature (in °C)
D1	40
D2	41
D3	43
D4	42
D5	44
D6	40
D7	39
D8	37.5
D9	34.5
D10	44

What is the average temperature of the city per day?

Options :

- ✘ 32.5°C
- ✘ 36.5°C
- ✔ 40.5°C
- ✘ 44.5°C

Question Number : 117 Question Id : 54592712641 Question Type : MCQ Option Shuffling : Yes Display Question Number : Yes Single Line Question Option : No Option Orientation : Vertical

Correct Marks : 1 Wrong Marks : 0.25

नीचे दी गई तालिका महीने के 10 दिनों के लिए एक शहर का तापमान दर्शाती है।

दिन	तापमान ( $^{\circ}\text{C}$ में)
D1	40
D2	41
D3	43
D4	42
D5	44
D6	40
D7	39
D8	37.5
D9	34.5
D10	44

प्रतिदिन शहर का औसत तापमान क्या है?

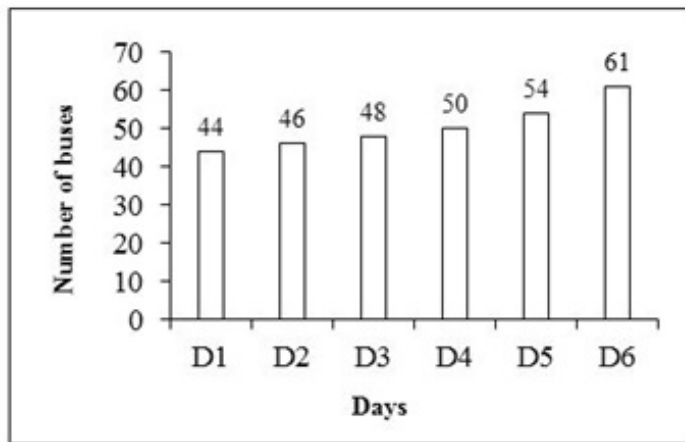
Options :

- ✘  $32.5^{\circ}\text{C}$
- ✘  $36.5^{\circ}\text{C}$
- ✔  $40.5^{\circ}\text{C}$
- ✘  $44.5^{\circ}\text{C}$

Question Number : 118 Question Id : 54592712642 Question Type : MCQ Option Shuffling : Yes Display Question Number : Yes Single Line Question Option : No Option Orientation : Vertical

Correct Marks : 1 Wrong Marks : 0.25

The bar graph given below shows the number of buses that ran on a particular route on different days of a week.



Find the total number of buses that ran on all the days.

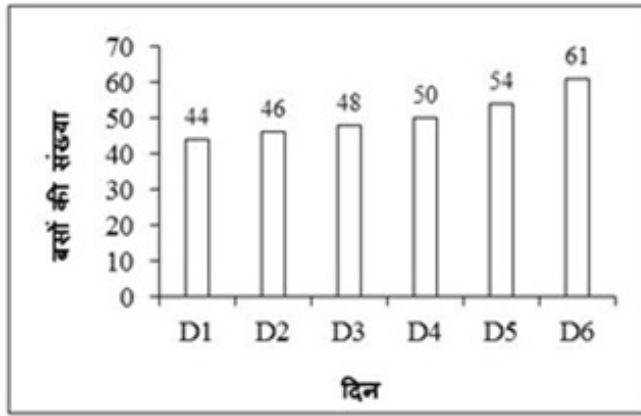
Options :

- ✘ 283
- ✘ 313
- ✘ 293
- ✔ 303

Question Number : 118 Question Id : 54592712642 Question Type : MCQ Option Shuffling : Yes Display Question Number : Yes Single Line Question Option : No Option Orientation : Vertical

Correct Marks : 1 Wrong Marks : 0.25

नीचे दिया गया दण्ड चित्र एक हफ्ते के विभिन्न दिनों पर एक नियमित रूट पर चली बसों की संख्या को दर्शाता है।



सभी दिनों में मिलाकर चली बसों की कुल संख्या क्या है?

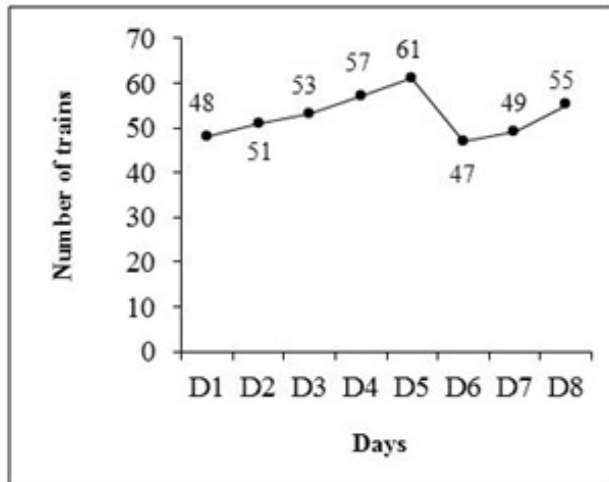
Options :

- ✗ 283
- ✗ 313
- ✗ 293
- ✓ 303

Question Number : 119 Question Id : 54592712643 Question Type : MCQ Option Shuffling : Yes Display Question Number : Yes Single Line Question Option : No Option Orientation : Vertical

Correct Marks : 1 Wrong Marks : 0.25

The line graph given below shows the number of trains departing from a station for 8 days of a month.



The number of trains departing on day D6 is how much less than the average number of trains departing from the station?

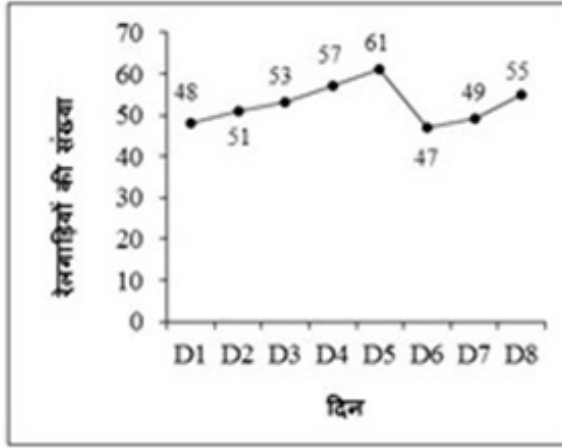
Options :

- ✓ 5.625
- ✗ 7.625
- ✗ 9.625
- ✗ 11.625

Question Number : 119 Question Id : 54592712643 Question Type : MCQ Option Shuffling : Yes Display Question Number : Yes Single Line Question Option : No Option Orientation : Vertical

Correct Marks : 1 Wrong Marks : 0.25

नीचे दिए गए लाइन ग्राफ एक महीने के 8 दिनों के लिए एक स्टेशन से प्रस्थान करने वाली ट्रेनों की संख्या को दर्शाता है।



दिन D6 में जाने वाली रेलगाड़ियों की संख्या, स्टेशन से जाने वाली रेलगाड़ियों की औसत संख्या से कितनी कम है?

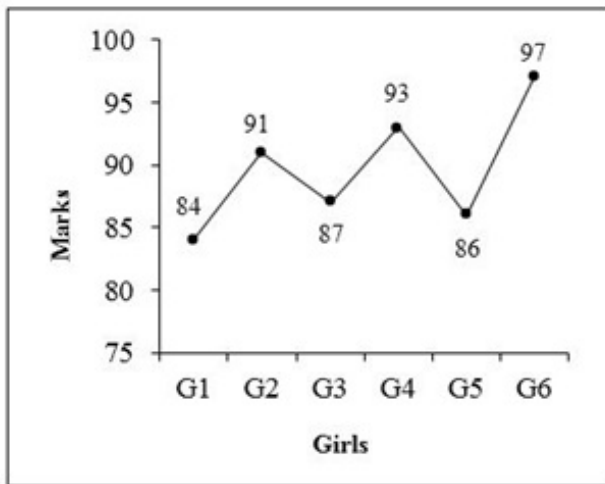
Options :

- ✓ 5.625
- ✗ 7.625
- ✗ 9.625
- ✗ 11.625

Question Number : 120 Question Id : 54592712644 Question Type : MCQ Option Shuffling : Yes Display Question Number : Yes Single Line Question Option : No Option Orientation : Vertical

Correct Marks : 1 Wrong Marks : 0.25

The line graph given below shows the marks obtained by different girls in a subject.



The marks obtained by girl G2 is what percentage of total marks obtained by all the 6 girls?


Options :

- ✗ 5.91 percent
- ✗ 11.91 percent
- ✓ 16.91 percent
- ✗ 26.91 percent

Question Number : 120 Question Id : 54592712644 Question Type : MCQ Option Shuffling : Yes Display Question Number : Yes Single Line Question Option : No Option Orientation : Vertical

Correct Marks : 1 Wrong Marks : 0.25

नीचे दिया गया रेखा चित्र एक विषय में विभिन्न लड़कियों द्वारा प्राप्त अंकों को दर्शाता है।



लड़की G2 द्वारा प्राप्त अंक सभी 6 लड़कियों द्वारा प्राप्त कुल अंकों के कितने प्रतिशत है?

Options :

- ✘ 5.91 प्रतिशत
- ✘ 11.91 प्रतिशत
- ✔ 16.91 प्रतिशत
- ✘ 26.91 प्रतिशत

#### General English1

Group Number :	7
Group Id :	545927627
Group Maximum Duration :	0
Group Minimum Duration :	0
Revisit allowed for view? :	No
Revisit allowed for edit? :	No
Break time:	0
Group Marks:	20
Revisit allowed for group Instructions? :	Yes
Maximum Instruction Time:	0
Minimum Instruction Time:	0

#### General English1

Section Id :	545927627
Section Number :	1
Section type :	Online
Mandatory or Optional:	Mandatory
Number of Questions:	20
Number of Questions to be attempted:	20
Section Marks:	20
Display Number Panel:	Yes
Group All Questions:	No

Sub-Section Number:	1
Sub-Section Id:	545927751

Question Shuffling Allowed :

Yes

Question Number : 121 Question Id : 54592712645 Question Type : MCQ Option Shuffling : Yes Display Question Number : Yes  
Single Line Question Option : No Option Orientation : Vertical

Correct Marks : 1 Wrong Marks : 0.25

Find the part of the given sentence that has an error in it. If there is no error, choose 'No error'.

She had no other option (1) / but than of (2) / collecting flowers (3) / . No error (4)

Options :

1. ✘ 1

2. ✔ 2

3. ✘ 3

4. ✘ 4

Question Number : 121 Question Id : 54592712645 Question Type : MCQ Option Shuffling : Yes Display Question Number : Yes  
Single Line Question Option : No Option Orientation : Vertical

Correct Marks : 1 Wrong Marks : 0.25

Find the part of the given sentence that has an error in it. If there is no error, choose 'No error'.

She had no other option (1) / but than of (2) / collecting flowers (3) / . No error (4)

Options :

1. ✘ 1

2. ✔ 2

3. ✘ 3

4. ✘ 4

Question Number : 122 Question Id : 54592712646 Question Type : MCQ Option Shuffling : Yes Display Question Number : Yes  
Single Line Question Option : No Option Orientation : Vertical

Correct Marks : 1 Wrong Marks : 0.25

Find the part of the given sentence that has an error in it. If there is no error, choose 'No error'.

Can you (1) / please pass mine (2) / a glass of water (3) /? No error (4)

Options :

1. ✘ 1

2. ✔ 2

3. ✘ 3

4. ✘ 4

Question Number : 122 Question Id : 54592712646 Question Type : MCQ Option Shuffling : Yes Display Question Number : Yes  
Single Line Question Option : No Option Orientation : Vertical

Correct Marks : 1 Wrong Marks : 0.25

Find the part of the given sentence that has an error in it. If there is no error, choose 'No error'.

Can you (1) / please pass mine (2) / a glass of water (3) /? No error (4)

Options :

1. ✘ 1

2. ✔ 2

3. ✘ 3

4. ✘ 4

Question Number : 123 Question Id : 54592712647 Question Type : MCQ Option Shuffling : Yes Display Question Number : Yes  
Single Line Question Option : No Option Orientation : Vertical

Correct Marks : 1 Wrong Marks : 0.25

Find the part of the given sentence that has an error in it. If there is no error, choose 'No error'.

Unless you do not (1) work hard (2) / you will fail (3) /. No error (4)

Options :

1. ✓ 1

2. ✗ 2

3. ✗ 3

4. ✗ 4

Question Number : 123 Question Id : 54592712647 Question Type : MCQ Option Shuffling : Yes Display Question Number : Yes  
Single Line Question Option : No Option Orientation : Vertical

Correct Marks : 1 Wrong Marks : 0.25

Find the part of the given sentence that has an error in it. If there is no error, choose 'No error'.

Unless you do not (1) work hard (2) / you will fail (3) /. No error (4)

Options :

1. ✓ 1

2. ✗ 2

3. ✗ 3

4. ✗ 4

Question Number : 124 Question Id : 54592712648 Question Type : MCQ Option Shuffling : Yes Display Question Number : Yes  
Single Line Question Option : No Option Orientation : Vertical

Correct Marks : 1 Wrong Marks : 0.25

Find the part of the given sentence that has an error in it. If there is no error, choose 'No error'.

He is (1) / married with (2) / his cousin (3) /. No error (4)

Options :

1. ✗ 1

2. ✓ 2

3. ✗ 3

4. ✗ 4

Question Number : 124 Question Id : 54592712648 Question Type : MCQ Option Shuffling : Yes Display Question Number : Yes  
Single Line Question Option : No Option Orientation : Vertical

Correct Marks : 1 Wrong Marks : 0.25

Find the part of the given sentence that has an error in it. If there is no error, choose 'No error'.

He is (1) / married with (2) / his cousin (3) /. No error (4)

Options :

1. ✗ 1

2. ✓ 2

3. ✗ 3

4. ✗ 4

Question Number : 125 Question Id : 54592712649 Question Type : MCQ Option Shuffling : Yes Display Question Number : Yes  
Single Line Question Option : No Option Orientation : Vertical

Correct Marks : 1 Wrong Marks : 0.25

Find the part of the given sentence that has an error in it. If there is no error, choose 'No error'.

This edition is (1) / very difference to (2) / the other (3) /. No error (4)

Options :

1. ✘ 1
2. ✔ 2
3. ✘ 3
4. ✘ 4

Question Number : 125 Question Id : 54592712649 Question Type : MCQ Option Shuffling : Yes Display Question Number : Yes  
Single Line Question Option : No Option Orientation : Vertical

Correct Marks : 1 Wrong Marks : 0.25

Find the part of the given sentence that has an error in it. If there is no error, choose 'No error'.

This edition is (1) / very difference to (2) / the other (3) /. No error (4)

Options :

1. ✘ 1
2. ✔ 2
3. ✘ 3
4. ✘ 4

Question Number : 126 Question Id : 54592712650 Question Type : MCQ Option Shuffling : Yes Display Question Number : Yes  
Single Line Question Option : No Option Orientation : Vertical

Correct Marks : 1 Wrong Marks : 0.25

Improve the bracketed part of the sentence.

I have been living here (since) months.

Options :

1. ✔ for
2. ✘ in
3. ✘ with
4. ✘ No Improvement

Question Number : 126 Question Id : 54592712650 Question Type : MCQ Option Shuffling : Yes Display Question Number : Yes  
Single Line Question Option : No Option Orientation : Vertical

Correct Marks : 1 Wrong Marks : 0.25

Improve the bracketed part of the sentence.

I have been living here (since) months.

Options :

1. ✔ for
2. ✘ in
3. ✘ with
4. ✘ No Improvement

Question Number : 127 Question Id : 54592712651 Question Type : MCQ Option Shuffling : Yes Display Question Number : Yes  
Single Line Question Option : No Option Orientation : Vertical

Correct Marks : 1 Wrong Marks : 0.25

Improve the bracketed part of the sentence.

I shall (have) plenty of time tomorrow.



Options :

1. ✘ has
2. ✘ were
3. ✘ had
4. ✔ No Improvement

Question Number : 127 Question Id : 54592712651 Question Type : MCQ Option Shuffling : Yes Display Question Number : Yes  
Single Line Question Option : No Option Orientation : Vertical

Correct Marks : 1 Wrong Marks : 0.25

Improve the bracketed part of the sentence.

I shall (have) plenty of time tomorrow.

Options :

1. ✘ has
2. ✘ were
3. ✘ had
4. ✔ No Improvement

Question Number : 128 Question Id : 54592712652 Question Type : MCQ Option Shuffling : Yes Display Question Number : Yes  
Single Line Question Option : No Option Orientation : Vertical

Correct Marks : 1 Wrong Marks : 0.25

Improve the bracketed part of the sentence.

She jumped off the bus while it (moved).

Options :

1. ✘ moving
2. ✔ was moving
3. ✘ are moving
4. ✘ No Improvement

Question Number : 128 Question Id : 54592712652 Question Type : MCQ Option Shuffling : Yes Display Question Number : Yes  
Single Line Question Option : No Option Orientation : Vertical

Correct Marks : 1 Wrong Marks : 0.25

Improve the bracketed part of the sentence.

She jumped off the bus while it (moved).

Options :

1. ✘ moving
2. ✔ was moving
3. ✘ are moving
4. ✘ No Improvement

Question Number : 129 Question Id : 54592712653 Question Type : MCQ Option Shuffling : Yes Display Question Number : Yes  
Single Line Question Option : No Option Orientation : Vertical

Correct Marks : 1 Wrong Marks : 0.25

Improve the bracketed part of the sentence.

When we reached the cinema, the film (have started).

Options :

1. ✘ has already started

2. ✓ had already started
3. ✗ is started
4. ✗ No Improvement

Question Number : 129 Question Id : 54592712653 Question Type : MCQ Option Shuffling : Yes Display Question Number : Yes  
Single Line Question Option : No Option Orientation : Vertical

Correct Marks : 1 Wrong Marks : 0.25

Improve the bracketed part of the sentence.

When we reached the cinema, the film (have started).

Options :

1. ✗ has already started
2. ✓ had already started
3. ✗ is started
4. ✗ No Improvement

Question Number : 130 Question Id : 54592712654 Question Type : MCQ Option Shuffling : Yes Display Question Number : Yes  
Single Line Question Option : No Option Orientation : Vertical

Correct Marks : 1 Wrong Marks : 0.25

Improve the bracketed part of the sentence.

They met a boy (carry) a basket of fruits.

Options :

1. ✗ carried
2. ✗ carries
3. ✓ carrying
4. ✗ No Improvement

Question Number : 130 Question Id : 54592712654 Question Type : MCQ Option Shuffling : Yes Display Question Number : Yes  
Single Line Question Option : No Option Orientation : Vertical

Correct Marks : 1 Wrong Marks : 0.25

Improve the bracketed part of the sentence.

They met a boy (carry) a basket of fruits.

Options :

1. ✗ carried
2. ✗ carries
3. ✓ carrying
4. ✗ No Improvement

Question Number : 131 Question Id : 54592712655 Question Type : MCQ Option Shuffling : Yes Display Question Number : Yes  
Single Line Question Option : No Option Orientation : Vertical

Correct Marks : 1 Wrong Marks : 0.25

A sentence has been given with a blank to be filled with an appropriate word. Choose the correct alternative.

The next train will \_\_\_\_\_ at 1:00 pm.

Options :

1. ✓ leave
2. ✗ leaving
3. ✗ leaves

4. ✘ left

Question Number : 131 Question Id : 54592712655 Question Type : MCQ Option Shuffling : Yes Display Question Number : Yes  
Single Line Question Option : No Option Orientation : Vertical

Correct Marks : 1 Wrong Marks : 0.25

A sentence has been given with a blank to be filled with an appropriate word. Choose the correct alternative.

The next train will \_\_\_\_\_ at 1:00 pm.

Options :

1. ✔ leave
2. ✘ leaving
3. ✘ leaves
4. ✘ left

Question Number : 132 Question Id : 54592712656 Question Type : MCQ Option Shuffling : Yes Display Question Number : Yes  
Single Line Question Option : No Option Orientation : Vertical

Correct Marks : 1 Wrong Marks : 0.25

A sentence has been given with a blank to be filled with an appropriate word. Choose the correct alternative.

We want \_\_\_\_\_ men like him.

Options :

1. ✘ much
2. ✘ most
3. ✔ more
4. ✘ any

Question Number : 132 Question Id : 54592712656 Question Type : MCQ Option Shuffling : Yes Display Question Number : Yes  
Single Line Question Option : No Option Orientation : Vertical

Correct Marks : 1 Wrong Marks : 0.25

A sentence has been given with a blank to be filled with an appropriate word. Choose the correct alternative.

We want \_\_\_\_\_ men like him.

Options :

1. ✘ much
2. ✘ most
3. ✔ more
4. ✘ any

Question Number : 133 Question Id : 54592712657 Question Type : MCQ Option Shuffling : Yes Display Question Number : Yes  
Single Line Question Option : No Option Orientation : Vertical

Correct Marks : 1 Wrong Marks : 0.25

A sentence has been given with a blank to be filled with an appropriate word. Choose the correct alternative.

Read it \_\_\_\_\_ carefully.

Options :

1. ✘ next
2. ✔ over
3. ✘ like
4. ✘ why

Question Number : 133 Question Id : 54592712657 Question Type : MCQ Option Shuffling : Yes Display Question Number : Yes  
Single Line Question Option : No Option Orientation : Vertical

Correct Marks : 1 Wrong Marks : 0.25

A sentence has been given with a blank to be filled with an appropriate word. Choose the correct alternative.

Read it \_\_\_\_\_ carefully.

Options :

1. ✘ next
2. ✔ over
3. ✘ like
4. ✘ why

Question Number : 134 Question Id : 54592712658 Question Type : MCQ Option Shuffling : Yes Display Question Number : Yes  
Single Line Question Option : No Option Orientation : Vertical

Correct Marks : 1 Wrong Marks : 0.25

A sentence has been given with a blank to be filled with an appropriate word. Choose the correct alternative.

I ask it as a \_\_\_\_\_.

Options :

1. ✔ right
2. ✘ round
3. ✘ such
4. ✘ while

Question Number : 134 Question Id : 54592712658 Question Type : MCQ Option Shuffling : Yes Display Question Number : Yes  
Single Line Question Option : No Option Orientation : Vertical

Correct Marks : 1 Wrong Marks : 0.25

A sentence has been given with a blank to be filled with an appropriate word. Choose the correct alternative.

I ask it as a \_\_\_\_\_.

Options :

1. ✔ right
2. ✘ round
3. ✘ such
4. ✘ while

Question Number : 135 Question Id : 54592712659 Question Type : MCQ Option Shuffling : Yes Display Question Number : Yes  
Single Line Question Option : No Option Orientation : Vertical

Correct Marks : 1 Wrong Marks : 0.25

A sentence has been given with a blank to be filled with an appropriate word. Choose the correct alternative.

She is a \_\_\_\_\_ relative.

Options :

1. ✘ next
2. ✘ needs
3. ✔ near
4. ✘ so

Question Number : 135 Question Id : 54592712659 Question Type : MCQ Option Shuffling : Yes Display Question Number : Yes  
Single Line Question Option : No Option Orientation : Vertical

Correct Marks : 1 Wrong Marks : 0.25

A sentence has been given with a blank to be filled with an appropriate word. Choose the correct alternative.

She is a \_\_\_\_\_ relative.

Options :

1. ✘ next
2. ✘ needs
3. ✔ near
4. ✘ so

Question Number : 136 Question Id : 54592712660 Question Type : MCQ Option Shuffling : Yes Display Question Number : Yes  
Single Line Question Option : No Option Orientation : Vertical

Correct Marks : 1 Wrong Marks : 0.25

A sentence has been given with a blank to be filled with an appropriate word. Choose the correct alternative.

The wiser she is, the \_\_\_\_\_.

Options :

1. ✘ best
2. ✘ good
3. ✘ bad
4. ✔ better

Question Number : 136 Question Id : 54592712660 Question Type : MCQ Option Shuffling : Yes Display Question Number : Yes  
Single Line Question Option : No Option Orientation : Vertical

Correct Marks : 1 Wrong Marks : 0.25

A sentence has been given with a blank to be filled with an appropriate word. Choose the correct alternative.

The wiser she is, the \_\_\_\_\_.

Options :

1. ✘ best
2. ✘ good
3. ✘ bad
4. ✔ better

Question Number : 137 Question Id : 54592712661 Question Type : MCQ Option Shuffling : Yes Display Question Number : Yes  
Single Line Question Option : No Option Orientation : Vertical

Correct Marks : 1 Wrong Marks : 0.25

A sentence has been given with a blank to be filled with an appropriate word. Choose the correct alternative.

He is willing, \_\_\_\_\_ unable.

Options :

1. ✔ yet
2. ✘ so
3. ✘ why
4. ✘ up

Question Number : 137 Question Id : 54592712661 Question Type : MCQ Option Shuffling : Yes Display Question Number : Yes  
Single Line Question Option : No Option Orientation : Vertical

Correct Marks : 1 Wrong Marks : 0.25

A sentence has been given with a blank to be filled with an appropriate word. Choose the correct alternative.

He is willing, \_\_\_\_\_ unable.

Options :

1. ✓ yet
2. ✗ so
3. ✗ why
4. ✗ up

Question Number : 138 Question Id : 54592712662 Question Type : MCQ Option Shuffling : Yes Display Question Number : Yes  
Single Line Question Option : No Option Orientation : Vertical

Correct Marks : 1 Wrong Marks : 0.25

A sentence has been given with a blank to be filled with an appropriate word. Choose the correct alternative.

Do not start \_\_\_\_\_ you hear from me.

Options :

1. ✗ for
2. ✗ since
3. ✓ till
4. ✗ more

Question Number : 138 Question Id : 54592712662 Question Type : MCQ Option Shuffling : Yes Display Question Number : Yes  
Single Line Question Option : No Option Orientation : Vertical

Correct Marks : 1 Wrong Marks : 0.25

A sentence has been given with a blank to be filled with an appropriate word. Choose the correct alternative.

Do not start \_\_\_\_\_ you hear from me.

Options :

1. ✗ for
2. ✗ since
3. ✓ till
4. ✗ more

Question Number : 139 Question Id : 54592712663 Question Type : MCQ Option Shuffling : Yes Display Question Number : Yes  
Single Line Question Option : No Option Orientation : Vertical

Correct Marks : 1 Wrong Marks : 0.25

The question below consists of a set of labeled sentences. Out of the four options given, select the most logical order of the sentences that form a coherent paragraph.

P: and a fire was lit

Q: radha was made

R: side of the bridegroom

S: to sit on the right

Options :

1. ✓ QSRP
2. ✗ QSPR
3. ✗ PQRS
4. ✗ SRQP

Question Number : 139 Question Id : 54592712663 Question Type : MCQ Option Shuffling : Yes Display Question Number : Yes  
Single Line Question Option : No Option Orientation : Vertical

Correct Marks : 1 Wrong Marks : 0.25

The question below consists of a set of labeled sentences. Out of the four options given, select the most logical order of the sentences that form a coherent paragraph.

P: and a fire was lit  
Q: radha was made  
R: side of the bridegroom  
S: to sit on the right

Options :

1. ✓ QSRP
2. ✗ QSPR
3. ✗ PQRS
4. ✗ SRQP

Question Number : 140 Question Id : 54592712664 Question Type : MCQ Option Shuffling : Yes Display Question Number : Yes  
Single Line Question Option : No Option Orientation : Vertical

Correct Marks : 1 Wrong Marks : 0.25

The question below consists of a set of labeled sentences. Out of the four options given, select the most logical order of the sentences to form a coherent paragraph.

P: besides these, a blacksmith  
Q: had sent models of an aeroplane  
R: which were highly appreciated  
S: and an anti-aircraft gun

Options :

1. ✗ PQRS
2. ✓ PQSR
3. ✗ QSRP
4. ✗ PRSQ

Question Number : 140 Question Id : 54592712664 Question Type : MCQ Option Shuffling : Yes Display Question Number : Yes  
Single Line Question Option : No Option Orientation : Vertical

Correct Marks : 1 Wrong Marks : 0.25

The question below consists of a set of labeled sentences. Out of the four options given, select the most logical order of the sentences to form a coherent paragraph.

P: besides these, a blacksmith  
Q: had sent models of an aeroplane  
R: which were highly appreciated  
S: and an anti-aircraft gun

Options :

1. ✗ PQRS
2. ✓ PQSR
3. ✗ QSRP
4. ✗ PRSQ

General English2

Group Number :	8
Group Id :	545927628
Group Maximum Duration :	0
Group Minimum Duration :	0
Revisit allowed for view? :	No

Revisit allowed for edit? :	No
Break time:	0
Group Marks:	20
Revisit allowed for group Instructions? :	Yes
Maximum Instruction Time:	0
Minimum Instruction Time:	0

## General English2

Section Id :	545927628
Section Number :	1
Section type :	Online
Mandatory or Optional:	Mandatory
Number of Questions:	16
Number of Questions to be attempted:	16
Section Marks:	20
Display Number Panel:	Yes
Group All Questions:	No

Sub-Section Number:	1
Sub-Section Id:	545927752
Question Shuffling Allowed :	Yes

Question Number : 141 Question Id : 54592712665 Question Type : MCQ Option Shuffling : Yes Display Question Number : Yes  
Single Line Question Option : No Option Orientation : Vertical

Correct Marks : 1 Wrong Marks : 0.25

The question below consists of a set of labeled sentences. Out of the four options given, select the most logical order of the sentences to form a coherent paragraph.

P: one dares nothing, gains nothing.

Q: courage and bravery are admirable qualities

R: but courage and bravery should be exercised with discretion and wisdom.

S: a coward can do nothing; he can achieve nothing.

Options :

1. ✓ QPSR
2. ✗ PQRS
3. ✗ QSRP
4. ✗ QRPS

Question Number : 141 Question Id : 54592712665 Question Type : MCQ Option Shuffling : Yes Display Question Number : Yes  
Single Line Question Option : No Option Orientation : Vertical

Correct Marks : 1 Wrong Marks : 0.25

The question below consists of a set of labeled sentences. Out of the four options given, select the most logical order of the sentences to form a coherent paragraph.

P: one dares nothing, gains nothing.

Q: courage and bravery are admirable qualities

R: but courage and bravery should be exercised with discretion and wisdom.

S: a coward can do nothing; he can achieve nothing.

Options :

1. ✓ QPSR
2. ✗ PQRS



3. ✖ QSRP

4. ✖ QRPS

Question Number : 142 Question Id : 54592712666 Question Type : MCQ Option Shuffling : Yes Display Question Number : Yes  
Single Line Question Option : No Option Orientation : Vertical

Correct Marks : 1 Wrong Marks : 0.25

Choose the word that is opposite in meaning to the given word.

Regret

Note: For this question, discrepancy is found in question/answer. So, this question is ignored for all candidates.

Options :

1. Appreciate
2. Remorse
3. Ruthlessness
4. Praise

Question Number : 142 Question Id : 54592712666 Question Type : MCQ Option Shuffling : Yes Display Question Number : Yes  
Single Line Question Option : No Option Orientation : Vertical

Correct Marks : 1 Wrong Marks : 0.25

Choose the word that is opposite in meaning to the given word.

Regret

Note: For this question, discrepancy is found in question/answer. So, this question is ignored for all candidates.

Options :

1. Appreciate
2. Remorse
3. Ruthlessness
4. Praise

Question Number : 143 Question Id : 54592712667 Question Type : MCQ Option Shuffling : Yes Display Question Number : Yes  
Single Line Question Option : No Option Orientation : Vertical

Correct Marks : 1 Wrong Marks : 0.25

Choose the word that means the same as the given word.

Miserable

Options :

1. ✖ Contended
2. ✖ Allowed
3. ✔ Dejected
4. ✖ Accepted

Question Number : 143 Question Id : 54592712667 Question Type : MCQ Option Shuffling : Yes Display Question Number : Yes  
Single Line Question Option : No Option Orientation : Vertical

Correct Marks : 1 Wrong Marks : 0.25

Choose the word that means the same as the given word.

Miserable

Options :

1. ✖ Contended

2. ✘ Allowed
3. ✔ Dejected
4. ✘ Accepted

Question Number : 144 Question Id : 54592712668 Question Type : MCQ Option Shuffling : Yes Display Question Number : Yes  
Single Line Question Option : No Option Orientation : Vertical

Correct Marks : 1 Wrong Marks : 0.25

Choose the word that means the same as the given word.

Tarnish

Options :

1. ✘ Honour
2. ✘ Assist
3. ✘ Praise
4. ✔ Stain

Question Number : 144 Question Id : 54592712668 Question Type : MCQ Option Shuffling : Yes Display Question Number : Yes  
Single Line Question Option : No Option Orientation : Vertical

Correct Marks : 1 Wrong Marks : 0.25

Choose the word that means the same as the given word.

Tarnish

Options :

1. ✘ Honour
2. ✘ Assist
3. ✘ Praise
4. ✔ Stain

Question Number : 145 Question Id : 54592712669 Question Type : MCQ Option Shuffling : Yes Display Question Number : Yes  
Single Line Question Option : No Option Orientation : Vertical

Correct Marks : 1 Wrong Marks : 0.25

Choose the word that is opposite in meaning to the given word.

Linger

Options :

1. ✔ Forge
2. ✘ Stay
3. ✘ Put
4. ✘ Remain

Question Number : 145 Question Id : 54592712669 Question Type : MCQ Option Shuffling : Yes Display Question Number : Yes  
Single Line Question Option : No Option Orientation : Vertical

Correct Marks : 1 Wrong Marks : 0.25

Choose the word that is opposite in meaning to the given word.

Linger

Options :

1. ✔ Forge
2. ✘ Stay
3. ✘ Put

4. ✖ Remain

Question Number : 146 Question Id : 54592712670 Question Type : MCQ Option Shuffling : Yes Display Question Number : Yes  
Single Line Question Option : No Option Orientation : Vertical

Correct Marks : 1 Wrong Marks : 0.25

Choose the word that means the same as the given word.

Plentiful

Options :

1. ✔ Ample
2. ✖ Sparse
3. ✖ Scarce
4. ✖ Less

Question Number : 146 Question Id : 54592712670 Question Type : MCQ Option Shuffling : Yes Display Question Number : Yes  
Single Line Question Option : No Option Orientation : Vertical

Correct Marks : 1 Wrong Marks : 0.25

Choose the word that means the same as the given word.

Plentiful

Options :

1. ✔ Ample
2. ✖ Sparse
3. ✖ Scarce
4. ✖ Less

Question Number : 147 Question Id : 54592712671 Question Type : MCQ Option Shuffling : Yes Display Question Number : Yes  
Single Line Question Option : No Option Orientation : Vertical

Correct Marks : 1 Wrong Marks : 0.25

In the given question, four words are given out of which one word is correctly spelt. Choose the correctly spelt word.

Options :

1. ✖ Preceede
2. ✖ Preceade
3. ✔ Precede
4. ✖ Preacede

Question Number : 147 Question Id : 54592712671 Question Type : MCQ Option Shuffling : Yes Display Question Number : Yes  
Single Line Question Option : No Option Orientation : Vertical

Correct Marks : 1 Wrong Marks : 0.25

In the given question, four words are given out of which one word is correctly spelt. Choose the correctly spelt word.

Options :

1. ✖ Preceede
2. ✖ Preceade
3. ✔ Precede
4. ✖ Preacede

Question Number : 148 Question Id : 54592712672 Question Type : MCQ Option Shuffling : Yes Display Question Number : Yes  
Single Line Question Option : No Option Orientation : Vertical

**Correct Marks : 1 Wrong Marks : 0.25**

In the given question, four words are given out of which one word is correctly spelt. Choose the correctly spelt word.

**Options :**

1. ✘ Occassionally
2. ✔ Occasionally
3. ✘ Occasionaly
4. ✘ Occassionaly

**Question Number : 148 Question Id : 54592712672 Question Type : MCQ Option Shuffling : Yes Display Question Number : Yes Single Line Question Option : No Option Orientation : Vertical**

**Correct Marks : 1 Wrong Marks : 0.25**

In the given question, four words are given out of which one word is correctly spelt. Choose the correctly spelt word.

**Options :**

1. ✘ Occassionally
2. ✔ Occasionally
3. ✘ Occasionaly
4. ✘ Occassionaly

**Question Number : 149 Question Id : 54592712673 Question Type : MCQ Option Shuffling : Yes Display Question Number : Yes Single Line Question Option : No Option Orientation : Vertical**

**Correct Marks : 1 Wrong Marks : 0.25**

In the given question, four words are given out of which one word is correctly spelt. Choose the correctly spelt word.

**Options :**

1. ✔ Personnel
2. ✘ Personel
3. ✘ Parsonel
4. ✘ Persnal

**Question Number : 149 Question Id : 54592712673 Question Type : MCQ Option Shuffling : Yes Display Question Number : Yes Single Line Question Option : No Option Orientation : Vertical**

**Correct Marks : 1 Wrong Marks : 0.25**

In the given question, four words are given out of which one word is correctly spelt. Choose the correctly spelt word.

**Options :**

1. ✔ Personnel
2. ✘ Personel
3. ✘ Parsonel
4. ✘ Persnal

**Question Number : 150 Question Id : 54592712674 Question Type : MCQ Option Shuffling : Yes Display Question Number : Yes Single Line Question Option : No Option Orientation : Vertical**

**Correct Marks : 1 Wrong Marks : 0.25**

In the following question, out of the four given alternatives, select the alternative which best expresses the meaning of the Idiom/Phrase.

Child's play

**Options :**

- ✘ To make a poor impression
- ✔ A very easy task
- ✘ To die while on duty
- ✘ A fantastic story

Question Number : 150 Question Id : 54592712674 Question Type : MCQ Option Shuffling : Yes Display Question Number : Yes  
Single Line Question Option : No Option Orientation : Vertical

Correct Marks : 1 Wrong Marks : 0.25

In the following question, out of the four given alternatives, select the alternative which best expresses the meaning of the Idiom/Phrase.

Child's play

Options :

- ✘ To make a poor impression
- ✔ A very easy task
- ✘ To die while on duty
- ✘ A fantastic story

Question Number : 151 Question Id : 54592712675 Question Type : MCQ Option Shuffling : Yes Display Question Number : Yes  
Single Line Question Option : No Option Orientation : Vertical

Correct Marks : 1 Wrong Marks : 0.25

In the following question, out of the given four alternatives, select the alternative which best expresses the meaning of the Idiom/Phrase.

Every inch

Options :

- ✔ Completely
- ✘ The skill of oratory
- ✘ Honesty
- ✘ To look gloomy

Question Number : 151 Question Id : 54592712675 Question Type : MCQ Option Shuffling : Yes Display Question Number : Yes  
Single Line Question Option : No Option Orientation : Vertical

Correct Marks : 1 Wrong Marks : 0.25

In the following question, out of the given four alternatives, select the alternative which best expresses the meaning of the Idiom/Phrase.

Every inch

Options :

- ✔ Completely
- ✘ The skill of oratory
- ✘ Honesty
- ✘ To look gloomy

Question Number : 152 Question Id : 54592712676 Question Type : MCQ Option Shuffling : Yes Display Question Number : Yes  
Single Line Question Option : No Option Orientation : Vertical

Correct Marks : 1 Wrong Marks : 0.25

In the following question, out of the given four alternatives, select the alternative which best expresses the meaning of the Idiom/Phrase.

To see eye to eye

Options :

1. ✘ Just dealing
2. ✘ Ineffective remedy
3. ✔ To agree
4. ✘ To flatter

Question Number : 152 Question Id : 54592712676 Question Type : MCQ Option Shuffling : Yes Display Question Number : Yes  
Single Line Question Option : No Option Orientation : Vertical

Correct Marks : 1 Wrong Marks : 0.25

In the following question, out of the given four alternatives, select the alternative which best expresses the meaning of the Idiom/Phrase.

To see eye to eye

Options :

1. ✘ Just dealing
2. ✘ Ineffective remedy
3. ✔ To agree
4. ✘ To flatter

Question Number : 153 Question Id : 54592712677 Question Type : MCQ Option Shuffling : Yes Display Question Number : Yes  
Single Line Question Option : No Option Orientation : Vertical

Correct Marks : 1 Wrong Marks : 0.25

Choose the word that can substitute the given sentence.

That which can be seen through

Options :

1. ✘ Opaque
2. ✔ Transparent
3. ✘ Translucent
4. ✘ Reflective

Question Number : 153 Question Id : 54592712677 Question Type : MCQ Option Shuffling : Yes Display Question Number : Yes  
Single Line Question Option : No Option Orientation : Vertical

Correct Marks : 1 Wrong Marks : 0.25

Choose the word that can substitute the given sentence.

That which can be seen through

Options :

1. ✘ Opaque
2. ✔ Transparent
3. ✘ Translucent
4. ✘ Reflective

Question Number : 154 Question Id : 54592712678 Question Type : MCQ Option Shuffling : Yes Display Question Number : Yes  
Single Line Question Option : No Option Orientation : Vertical

Correct Marks : 1 Wrong Marks : 0.25

Choose the word that can substitute the given sentence.

One extremely fond of one's wife

Options :

1. ✓ Uxorious
2. ✗ Uxoricide
3. ✗ Misogynist
4. ✗ Philanderer

Question Number : 154 Question Id : 54592712678 Question Type : MCQ Option Shuffling : Yes Display Question Number : Yes  
Single Line Question Option : No Option Orientation : Vertical

Correct Marks : 1 Wrong Marks : 0.25

Choose the word that can substitute the given sentence.

One extremely fond of one's wife

Options :

1. ✓ Uxorious
2. ✗ Uxoricide
3. ✗ Misogynist
4. ✗ Philanderer

Question Number : 155 Question Id : 54592712679 Question Type : MCQ Option Shuffling : Yes Display Question Number : Yes  
Single Line Question Option : No Option Orientation : Vertical

Correct Marks : 1 Wrong Marks : 0.25

Choose the word that can substitute the given sentence.

Able to do many different things

Options :

1. ✗ Perfectionist
2. ✗ Master
3. ✗ Naive
4. ✓ Versatile

Question Number : 155 Question Id : 54592712679 Question Type : MCQ Option Shuffling : Yes Display Question Number : Yes  
Single Line Question Option : No Option Orientation : Vertical

Correct Marks : 1 Wrong Marks : 0.25

Choose the word that can substitute the given sentence.

Able to do many different things

Options :

1. ✗ Perfectionist
2. ✗ Master
3. ✗ Naive
4. ✓ Versatile

Sub-Section Number:	2
Sub-Section Id:	545927753
Question Shuffling Allowed :	Yes

Question Id : 54592712680 Question Type : COMPREHENSION Sub Question Shuffling Allowed : Yes Group Comprehension  
Questions : No

Question Numbers : (156 to 160)

Question Label : Comprehension

Read the following information carefully and answer the given questions.

Archaeology as a profession faces two major problems. First, it is the poorest of the poor. Only paltry sums are available for excavating and even less is available for publishing the results and preserving sites once excavated. Yet archaeologists deal with priceless objects every day. Second, there is the problem of illegal excavation, resulting in museum quality pieces being sold to the highest bidder. I would like to make an outrageous suggestion that would at one stroke provide funds for archaeology and reduce the amount of illegal digging. I would propose that scientific archaeological expeditions and governmental authorities sell excavated artifacts in the open market. You might object that professionals excavate to acquire knowledge or money. Moreover, ancient artifacts are part of our global cultural heritage, which should be available for all to appreciate, not sold to the highest bidder. Sell nothing that has unique artistic merit or scientific value. But, you might reply, everything that comes out of the ground has a scientific value. Theoretically, you may be correct in claiming that every artifact has a potential scientific value. The basement of museums is simply not large enough to store the artifacts that are likely to be discovered in the future. There is not enough money even to catalogue the finds, as a result, they cannot be found again and become as inaccessible as if they had never been discovered. Indeed, with the help of a computer, some artifacts could be more accessible than are the pieces stored in bulging museum basements. Prior to sale, each could be photographed and the list of the purchasers could be maintained on the computer. A purchaser could even be required to agree to return the piece if it should become needed for scientific purposes.

It would be unrealistic to suggest that illegal digging would stop if artifacts were sold in the open market. But the demand for the clandestine product would be substantially reduced. Who would want an unmarked pot, when another was available, whose provenance was known and that was dated stratigraphically by the professional archeologist, who excavated it?

**Sub questions**

**Question Number : 156 Question Id : 54592712681 Question Type : MCQ Option Shuffling : Yes Display Question Number : Yes Single Line Question Option : No Option Orientation : Vertical**

**Correct Marks : 1 Wrong Marks : 0.25**

Which word means the same as excavate?

**Options :**

1. ✓ Uncover
2. ✗ Fill
3. ✗ Produce
4. ✗ Raise

**Question Number : 157 Question Id : 54592712682 Question Type : MCQ Option Shuffling : Yes Display Question Number : Yes Single Line Question Option : No Option Orientation : Vertical**

**Correct Marks : 1 Wrong Marks : 0.25**

Which of the following is mentioned in the passage as a disadvantage of storing artifacts in museum basements?

**Options :**

1. ✗ Museum officials rarely allow scholars access to such artifacts
2. ✗ Space that could be better used for display is taken up for storage
3. ✗ Such artifacts are often damaged by variations in temperature and humidity
4. ✓ There is not enough money to catalogue them and as a result they become inaccessible as if they had never been discovered

**Question Number : 158 Question Id : 54592712683 Question Type : MCQ Option Shuffling : Yes Display Question Number : Yes Single Line Question Option : No Option Orientation : Vertical**

**Correct Marks : 1 Wrong Marks : 0.25**

Which of the following statements is NOT true about duplicate artifacts?

**Options :**

1. ✗ A market for such artifacts already exists.
2. ✗ Such artifacts seldom have scientific value.



3. ✘ There is likely to be a continuous supply of such artifacts.
4. ✔ No option is correct.

Question Number : 159 Question Id : 54592712684 Question Type : MCQ Option Shuffling : Yes Display Question Number : Yes  
Single Line Question Option : No Option Orientation : Vertical

Correct Marks : 1 Wrong Marks : 0.25

The author anticipates which of the following initial objections to the adoption of his proposal?

Options :

1. ✘ Museum official will become unwilling to store artifacts
2. ✘ An over supply of salable artifacts will result and the demand for them will fall
3. ✔ Artifacts that would have been displayed in public places will be sold to private collectors
4. ✘ Illegal excavators will have an even larger supply of artifacts for resale

Question Number : 160 Question Id : 54592712685 Question Type : MCQ Option Shuffling : Yes Display Question Number : Yes  
Single Line Question Option : No Option Orientation : Vertical

Correct Marks : 1 Wrong Marks : 0.25

The primary purpose of the passage is to propose:

Options :

1. ✘ An alternative to museum display of artifacts
2. ✔ A way to curb illegal digging while benefitting the archaeological profession
3. ✘ A way to distinguish artifacts a scientific value from those that have no such value
4. ✘ A new system for cataloguing duplicate artifacts

Question Id : 54592712680 Question Type : COMPREHENSION Sub Question Shuffling Allowed : Yes Group Comprehension  
Questions : No

Question Numbers : (156 to 160)

Question Label : Comprehension

Read the following information carefully and answer the given questions.

Archaeology as a profession faces two major problems. First, it is the poorest of the poor. Only paltry sums are available for excavating and even less is available for publishing the results and preserving sites once excavated. Yet archaeologists deal with priceless objects every day. Second, there is the problem of illegal excavation, resulting in museum quality pieces being sold to the highest bidder. I would like to make an outrageous suggestion that would at one stroke provide funds for archaeology and reduce the amount of illegal digging. I would propose that scientific archaeological expeditions and governmental authorities sell excavated artifacts in the open market. You might object that professionals excavate to acquire knowledge or money. Moreover, ancient artifacts are part of our global cultural heritage, which should be available for all to appreciate, not sold to the highest bidder. Sell nothing that has unique artistic merit or scientific value. But, you might reply, everything that comes out of the ground has a scientific value. Theoretically, you may be correct in claiming that every artifact has a potential scientific value. The basement of museums is simply not large enough to store the artifacts that are likely to be discovered in the future. There is not enough money even to catalogue the finds, as a result, they cannot be found again and become as inaccessible as if they had never been discovered. Indeed, with the help of a computer, some artifacts could be more accessible than are the pieces stored in bulging museum basements. Prior to sale, each could be photographed and the list of the purchasers could be maintained on the computer. A purchaser could even be required to agree to return the piece if it should become needed for scientific purposes.

It would be unrealistic to suggest that illegal digging would stop if artifacts were sold in the open market. But the demand for the clandestine product would be substantially reduced. Who would want an unmarked pot, when another was available, whose provenance was known and that was dated stratigraphically by the professional archeologist, who excavated it?

Sub questions

Question Number : 156 Question Id : 54592712681 Question Type : MCQ Option Shuffling : Yes Display Question Number : Yes  
Single Line Question Option : No Option Orientation : Vertical

Correct Marks : 1 Wrong Marks : 0.25

Which word means the same as excavate?

Options :

1. ✓ Uncover
2. ✗ Fill
3. ✗ Produce
4. ✗ Raise

Question Number : 157 Question Id : 54592712682 Question Type : MCQ Option Shuffling : Yes Display Question Number : Yes  
Single Line Question Option : No Option Orientation : Vertical

Correct Marks : 1 Wrong Marks : 0.25

Which of the following is mentioned in the passage as a disadvantage of storing artifacts in museum basements?

Options :

1. ✗ Museum officials rarely allow scholars access to such artifacts
2. ✗ Space that could be better used for display is taken up for storage
3. ✗ Such artifacts are often damaged by variations in temperature and humidity
4. ✓ There is not enough money to catalogue them and as a result they become inaccessible as if they had never been discovered

Question Number : 158 Question Id : 54592712683 Question Type : MCQ Option Shuffling : Yes Display Question Number : Yes  
Single Line Question Option : No Option Orientation : Vertical

Correct Marks : 1 Wrong Marks : 0.25

Which of the following statements is NOT true about duplicate artifacts?

Options :

1. ✗ A market for such artifacts already exists.
2. ✗ Such artifacts seldom have scientific value.
3. ✗ There is likely to be a continuous supply of such artifacts.
4. ✓ No option is correct.

Question Number : 159 Question Id : 54592712684 Question Type : MCQ Option Shuffling : Yes Display Question Number : Yes  
Single Line Question Option : No Option Orientation : Vertical

Correct Marks : 1 Wrong Marks : 0.25

The author anticipates which of the following initial objections to the adoption of his proposal?

Options :

1. ✗ Museum official will become unwilling to store artifacts
2. ✗ An over supply of salable artifacts will result and the demand for them will fall
3. ✓ Artifacts that would have been displayed in public places will be sold to private collectors
4. ✗ Illegal excavators will have an even larger supply of artifacts for resale

Question Number : 160 Question Id : 54592712685 Question Type : MCQ Option Shuffling : Yes Display Question Number : Yes  
Single Line Question Option : No Option Orientation : Vertical

Correct Marks : 1 Wrong Marks : 0.25

The primary purpose of the passage is to propose:

Options :

1. ✗ An alternative to museum display of artifacts
2. ✓ A way to curb illegal digging while benefitting the archaeological profession
3. ✗ A way to distinguish artifacts a scientific value from those that have no such value
4. ✗ A new system for cataloguing duplicate artifacts

General Hindi 1

Group Number :	9
Group Id :	545927629
Group Maximum Duration :	0
Group Minimum Duration :	0
Revisit allowed for view? :	No
Revisit allowed for edit? :	No
Break time:	0
Group Marks:	20
Revisit allowed for group Instructions? :	Yes
Maximum Instruction Time:	0
Minimum Instruction Time:	0

General Hindi 1

Section Id :	545927629
Section Number :	1
Section type :	Online
Mandatory or Optional:	Mandatory
Number of Questions:	20
Number of Questions to be attempted:	20
Section Marks:	20
Display Number Panel:	Yes
Group All Questions:	No

Sub-Section Number:	1
Sub-Section Id:	545927754
Question Shuffling Allowed :	Yes

Question Number : 161 Question Id : 54592712686 Question Type : MCQ Option Shuffling : Yes Display Question Number : Yes  
Single Line Question Option : No Option Orientation : Vertical

Correct Marks : 1 Wrong Marks : 0.25

दिए गए शब्द में उपसर्ग ज्ञात कीजिए।

किंकिणी

Options :

1. ✓ किन्
2. ✗ णी
3. ✗ किंक
4. ✗ किं

Question Number : 161 Question Id : 54592712686 Question Type : MCQ Option Shuffling : Yes Display Question Number : Yes  
Single Line Question Option : No Option Orientation : Vertical

Correct Marks : 1 Wrong Marks : 0.25

दिए गए शब्द में उपसर्ग ज्ञात कीजिए।

किंकिणी

Options :

1. ✓ किन्
2. ✗ णी
3. ✗ किंक
4. ✗ किं

Question Number : 162 Question Id : 54592712687 Question Type : MCQ Option Shuffling : Yes Display Question Number : Yes  
Single Line Question Option : No Option Orientation : Vertical

Correct Marks : 1 Wrong Marks : 0.25

दिए गए शब्द में संधि के रूप की पहचान कीजिए

गायिका

Options :

1. ✓ अयादि संधि
2. ✗ यण संधि
3. ✗ विसर्ग संधि
4. ✗ गुण संधि

Question Number : 162 Question Id : 54592712687 Question Type : MCQ Option Shuffling : Yes Display Question Number : Yes  
Single Line Question Option : No Option Orientation : Vertical

Correct Marks : 1 Wrong Marks : 0.25

दिए गए शब्द में संधि के रूप की पहचान कीजिए

गायिका

Options :

1. ✓ अयादि संधि
2. ✗ यण संधि
3. ✗ विसर्ग संधि
4. ✗ गुण संधि

Question Number : 163 Question Id : 54592712688 Question Type : MCQ Option Shuffling : Yes Display Question Number : Yes  
Single Line Question Option : No Option Orientation : Vertical

Correct Marks : 1 Wrong Marks : 0.25

दिया गया वाक्य किस क्रिया का उदाहरण है ज्ञात कीजिए

नवीन ने भागकर बस पकड़ी।

Options :

1. ✓ पूर्वकालिक
2. ✗ नामधातु
3. ✗ प्रेरणार्थक
4. ✗ संयुक्त

Question Number : 163 Question Id : 54592712688 Question Type : MCQ Option Shuffling : Yes Display Question Number : Yes  
Single Line Question Option : No Option Orientation : Vertical

Correct Marks : 1 Wrong Marks : 0.25

दिया गया वाक्य किस क्रिया का उदाहरण है ज्ञात कीजिए

नवीन ने भागकर बस पकड़ी।

Options :

1. ✓ पूर्वकालिक
2. ✗ नामधातु

3. ✘ प्रेरणार्थक
4. ✘ संयुक्त

Question Number : 164 Question Id : 54592712689 Question Type : MCQ Option Shuffling : Yes Display Question Number : Yes  
Single Line Question Option : No Option Orientation : Vertical

Correct Marks : 1 Wrong Marks : 0.25

निम्नलिखित में से कौन सा शब्द स्वीकृति बोधक है?

Options :

1. ✘ शाबाश
2. ✔ अच्छा
3. ✘ ओह
4. ✘ बाप रे बाप

Question Number : 164 Question Id : 54592712689 Question Type : MCQ Option Shuffling : Yes Display Question Number : Yes  
Single Line Question Option : No Option Orientation : Vertical

Correct Marks : 1 Wrong Marks : 0.25

निम्नलिखित में से कौन सा शब्द स्वीकृति बोधक है?

Options :

1. ✘ शाबाश
2. ✔ अच्छा
3. ✘ ओह
4. ✘ बाप रे बाप

Question Number : 165 Question Id : 54592712690 Question Type : MCQ Option Shuffling : Yes Display Question Number : Yes  
Single Line Question Option : No Option Orientation : Vertical

Correct Marks : 1 Wrong Marks : 0.25

दिए गए वाक्यांश के लिए सामासिक पद का चयन कीजिए।

जीवन से मुक्त

Options :

1. ✘ जीवमुक्त
2. ✘ जीवनमूक्त
3. ✔ जीवनमुक्त
4. ✘ जीवनमुक्ति

Question Number : 165 Question Id : 54592712690 Question Type : MCQ Option Shuffling : Yes Display Question Number : Yes  
Single Line Question Option : No Option Orientation : Vertical

Correct Marks : 1 Wrong Marks : 0.25

दिए गए वाक्यांश के लिए सामासिक पद का चयन कीजिए।

जीवन से मुक्त

Options :

1. ✘ जीवमुक्त
2. ✘ जीवनमूक्त
3. ✔ जीवनमुक्त
4. ✘ जीवनमुक्ति

Question Number : 166 Question Id : 54592712691 Question Type : MCQ Option Shuffling : Yes Display Question Number : Yes  
Single Line Question Option : No Option Orientation : Vertical

Correct Marks : 1 Wrong Marks : 0.25

दिए गए शब्द युग्म का अर्थ ज्ञात कीजिए।

धरा - धारा

Options :

1. ✘ पृथ्वी - लहर
2. ✔ पृथ्वी - प्रवाह
3. ✘ धरती - लहर
4. ✘ पृथ्वी - नदी

Question Number : 166 Question Id : 54592712691 Question Type : MCQ Option Shuffling : Yes Display Question Number : Yes  
Single Line Question Option : No Option Orientation : Vertical

Correct Marks : 1 Wrong Marks : 0.25

दिए गए शब्द युग्म का अर्थ ज्ञात कीजिए।

धरा - धारा

Options :

1. ✘ पृथ्वी - लहर
2. ✔ पृथ्वी - प्रवाह
3. ✘ धरती - लहर
4. ✘ पृथ्वी - नदी

Question Number : 167 Question Id : 54592712692 Question Type : MCQ Option Shuffling : Yes Display Question Number : Yes  
Single Line Question Option : No Option Orientation : Vertical

Correct Marks : 1 Wrong Marks : 0.25

दिए गए वाक्यांश के लिए उचित शब्द का चयन कीजिए।

जिसका मन दूसरी ओर हो।

Options :

1. ✘ अनमन
2. ✘ बेमन
3. ✘ दूश्मन
4. ✔ अन्यमनस्क

Question Number : 167 Question Id : 54592712692 Question Type : MCQ Option Shuffling : Yes Display Question Number : Yes  
Single Line Question Option : No Option Orientation : Vertical

Correct Marks : 1 Wrong Marks : 0.25

दिए गए वाक्यांश के लिए उचित शब्द का चयन कीजिए।

जिसका मन दूसरी ओर हो।

Options :

1. ✘ अनमन
2. ✘ बेमन
3. ✘ दूश्मन
4. ✔ अन्यमनस्क

Question Number : 168 Question Id : 54592712693 Question Type : MCQ Option Shuffling : Yes Display Question Number : Yes  
Single Line Question Option : No Option Orientation : Vertical

Correct Marks : 1 Wrong Marks : 0.25

दिए गए शब्द का विलोम शब्द ज्ञात कीजिए।

उथला

Options :

1. ✘ पुथला
2. ✘ सुथला
3. ✘ उपर
4. ✔ गहरा

Question Number : 168 Question Id : 54592712693 Question Type : MCQ Option Shuffling : Yes Display Question Number : Yes  
Single Line Question Option : No Option Orientation : Vertical

Correct Marks : 1 Wrong Marks : 0.25

दिए गए शब्द का विलोम शब्द ज्ञात कीजिए।

उथला

Options :

1. ✘ पुथला
2. ✘ सुथला
3. ✘ उपर
4. ✔ गहरा

Question Number : 169 Question Id : 54592712694 Question Type : MCQ Option Shuffling : Yes Display Question Number : Yes  
Single Line Question Option : No Option Orientation : Vertical

Correct Marks : 1 Wrong Marks : 0.25

दिए गए शब्द का पर्यायवाची ज्ञात कीजिए।

नैसर्गिक

Options :

1. ✔ प्राकृतिक
2. ✘ मौलिक
3. ✘ कृत्रिक
4. ✘ नैतिक

Question Number : 169 Question Id : 54592712694 Question Type : MCQ Option Shuffling : Yes Display Question Number : Yes  
Single Line Question Option : No Option Orientation : Vertical

Correct Marks : 1 Wrong Marks : 0.25

दिए गए शब्द का पर्यायवाची ज्ञात कीजिए।

नैसर्गिक

Options :

1. ✔ प्राकृतिक
2. ✘ मौलिक
3. ✘ कृत्रिक
4. ✘ नैतिक

Question Number : 170 Question Id : 54592712695 Question Type : MCQ Option Shuffling : Yes Display Question Number : Yes  
Single Line Question Option : No Option Orientation : Vertical

Correct Marks : 1 Wrong Marks : 0.25

दिए गए वाक्यांश के लिए उचित शब्द का चयन कीजिए।

मोक्ष का इच्छुक

Options :

1. ✘ मइच्छुक

2. ✘ मोड़छुक
3. ✔ मुमुक्षु
4. ✘ जिज्ञासा

Question Number : 170 Question Id : 54592712695 Question Type : MCQ Option Shuffling : Yes Display Question Number : Yes  
Single Line Question Option : No Option Orientation : Vertical

Correct Marks : 1 Wrong Marks : 0.25

दिए गए वाक्यांश के लिए उचित शब्द का चयन कीजिए।

मोक्ष का इच्छुक

Options :

1. ✘ मइच्छुक
2. ✘ मोड़छुक
3. ✔ मुमुक्षु
4. ✘ जिज्ञासा

Question Number : 171 Question Id : 54592712696 Question Type : MCQ Option Shuffling : Yes Display Question Number : Yes  
Single Line Question Option : No Option Orientation : Vertical

Correct Marks : 1 Wrong Marks : 0.25

दिए गए शब्दों में से शुद्ध वर्तनी का चयन कीजिए।

Options :

1. ✘ हंसवहीनई
2. ✘ हंसवहीणी
3. ✔ हंसवहिणी
4. ✘ हंसवहिनी

Question Number : 171 Question Id : 54592712696 Question Type : MCQ Option Shuffling : Yes Display Question Number : Yes  
Single Line Question Option : No Option Orientation : Vertical

Correct Marks : 1 Wrong Marks : 0.25

दिए गए शब्दों में से शुद्ध वर्तनी का चयन कीजिए।

Options :

1. ✘ हंसवहीनई
2. ✘ हंसवहीणी
3. ✔ हंसवहिणी
4. ✘ हंसवहिनी

Question Number : 172 Question Id : 54592712697 Question Type : MCQ Option Shuffling : Yes Display Question Number : Yes  
Single Line Question Option : No Option Orientation : Vertical

Correct Marks : 1 Wrong Marks : 0.25

दिए गए वाक्य में रिक्त स्थान की पूर्ति कीजिए।

दीपा गरमी के \_\_\_\_\_ चबरा गई।

Options :

1. ✔ कारण
2. ✘ मारे
3. ✘ द्वारा
4. ✘ अनुसार



Question Number : 172 Question Id : 54592712697 Question Type : MCQ Option Shuffling : Yes Display Question Number : Yes  
Single Line Question Option : No Option Orientation : Vertical

Correct Marks : 1 Wrong Marks : 0.25

दिए गए वाक्य में रिक्त स्थान की पूर्ति कीजिए।

दीपा गरमी के \_\_\_\_\_ चबरा गई।

Options :

1. ✓ कारण
2. ✗ मारे
3. ✗ द्वारा
4. ✗ अनुसार

Question Number : 173 Question Id : 54592712698 Question Type : MCQ Option Shuffling : Yes Display Question Number : Yes  
Single Line Question Option : No Option Orientation : Vertical

Correct Marks : 1 Wrong Marks : 0.25

निम्नलिखित में से कौन सा शब्द दिए गए शब्द का पर्यायवाचीव नहीं है ज्ञात कीजिए।

पक्षी

Options :

1. ✗ विहग
2. ✗ परिरंदा
3. ✓ करका
4. ✗ पखेरू

Question Number : 173 Question Id : 54592712698 Question Type : MCQ Option Shuffling : Yes Display Question Number : Yes  
Single Line Question Option : No Option Orientation : Vertical

Correct Marks : 1 Wrong Marks : 0.25

निम्नलिखित में से कौन सा शब्द दिए गए शब्द का पर्यायवाचीव नहीं है ज्ञात कीजिए।

पक्षी

Options :

1. ✗ विहग
2. ✗ परिरंदा
3. ✓ करका
4. ✗ पखेरू

Question Number : 174 Question Id : 54592712699 Question Type : MCQ Option Shuffling : Yes Display Question Number : Yes  
Single Line Question Option : No Option Orientation : Vertical

Correct Marks : 1 Wrong Marks : 0.25

निम्नलिखित शब्दों में से वर्तनी की दृष्टि से कौन सा शब्द शुद्ध है?

Options :

1. ✗ दरिदी
2. ✗ धात्रि
3. ✓ दरिद्र
4. ✗ धोका

Question Number : 174 Question Id : 54592712699 Question Type : MCQ Option Shuffling : Yes Display Question Number : Yes  
Single Line Question Option : No Option Orientation : Vertical

Correct Marks : 1 Wrong Marks : 0.25

निम्नलिखित शब्दों में से वर्तनी की दृष्टि से कौन सा शब्द शुद्ध है?

Options :

1. ✘ दरिद्री
2. ✘ धात्रि
3. ✔ दरिद्र
4. ✘ धोका

Question Number : 175 Question Id : 54592712700 Question Type : MCQ Option Shuffling : Yes Display Question Number : Yes  
Single Line Question Option : No Option Orientation : Vertical

Correct Marks : 1 Wrong Marks : 0.25

दिए गए वाक्यांश के लिए उचित शब्द का चयन कीजिए।

अपने से बड़ो का विधिवत सम्माना

Options :

1. ✔ अभिनंदन
2. ✘ स्वागत
3. ✘ आवभगत
4. ✘ अभिमान

Question Number : 175 Question Id : 54592712700 Question Type : MCQ Option Shuffling : Yes Display Question Number : Yes  
Single Line Question Option : No Option Orientation : Vertical

Correct Marks : 1 Wrong Marks : 0.25

दिए गए वाक्यांश के लिए उचित शब्द का चयन कीजिए।

अपने से बड़ो का विधिवत सम्माना

Options :

1. ✔ अभिनंदन
2. ✘ स्वागत
3. ✘ आवभगत
4. ✘ अभिमान

Question Number : 176 Question Id : 54592712701 Question Type : MCQ Option Shuffling : Yes Display Question Number : Yes  
Single Line Question Option : No Option Orientation : Vertical

Correct Marks : 1 Wrong Marks : 0.25

दिए गए वाक्य के शुद्ध रूप का चयन कीजिए।

गाँव में किसान लोग मेहनत करता है।

Options :

1. ✘ गाँव में केवल किसान मेहनत करते हैं।
2. ✘ गाँव में किसान ही मेहनत करता है।
3. ✔ गाँव में किसान मेहनत करते हैं।
4. ✘ गाँव में किसान दल मेहनत करता है।

Question Number : 176 Question Id : 54592712701 Question Type : MCQ Option Shuffling : Yes Display Question Number : Yes  
Single Line Question Option : No Option Orientation : Vertical

Correct Marks : 1 Wrong Marks : 0.25

दिए गए वाक्य के शुद्ध रूप का चयन कीजिए।

गाँव में किसान लोग मेहनत करता है।

Options :

1. ✘ गाँव में केवल किसान मेहनत करते हैं।
2. ✘ गाँव में किसान ही मेहनत करता है।

3. ✓ गाँव में किसान मेहनत करते हैं
4. ✗ गाँव में किसान दल मेहनत करता है

Question Number : 177 Question Id : 54592712702 Question Type : MCQ Option Shuffling : Yes Display Question Number : Yes  
Single Line Question Option : No Option Orientation : Vertical

Correct Marks : 1 Wrong Marks : 0.25

दिए गए वाक्य का काल ज्ञात कीजिए

रेखा नृत्य प्रतियोगिता में भाग लेगी

Options :

1. ✗ सम्भाव्य भविष्यत् काल
2. ✓ सामान्य भविष्यत् काल
3. ✗ आज्ञार्थ भविष्यत् काल
4. ✗ असामान्य भविष्यत् काल

Question Number : 177 Question Id : 54592712702 Question Type : MCQ Option Shuffling : Yes Display Question Number : Yes  
Single Line Question Option : No Option Orientation : Vertical

Correct Marks : 1 Wrong Marks : 0.25

दिए गए वाक्य का काल ज्ञात कीजिए

रेखा नृत्य प्रतियोगिता में भाग लेगी

Options :

1. ✗ सम्भाव्य भविष्यत् काल
2. ✓ सामान्य भविष्यत् काल
3. ✗ आज्ञार्थ भविष्यत् काल
4. ✗ असामान्य भविष्यत् काल

Question Number : 178 Question Id : 54592712703 Question Type : MCQ Option Shuffling : Yes Display Question Number : Yes  
Single Line Question Option : No Option Orientation : Vertical

Correct Marks : 1 Wrong Marks : 0.25

निम्नलिखित में से कौन सा शब्द स्त्रीलिंग शब्द नहीं है?

Options :

1. ✗ कमला
2. ✗ लेखनी
3. ✗ पुस्तक
4. ✓ निबन्ध

Question Number : 178 Question Id : 54592712703 Question Type : MCQ Option Shuffling : Yes Display Question Number : Yes  
Single Line Question Option : No Option Orientation : Vertical

Correct Marks : 1 Wrong Marks : 0.25

निम्नलिखित में से कौन सा शब्द स्त्रीलिंग शब्द नहीं है?

Options :

1. ✗ कमला
2. ✗ लेखनी
3. ✗ पुस्तक
4. ✓ निबन्ध

Question Number : 179 Question Id : 54592712704 Question Type : MCQ Option Shuffling : Yes Display Question Number : Yes  
Single Line Question Option : No Option Orientation : Vertical

Correct Marks : 1 Wrong Marks : 0.25

दिए गए वाक्यों में से शुद्ध वाक्य का चयन कीजिए।

Options :

1. ✓ यह गुलाब का फूल है
2. ✗ यह सस्ते गल्ले की सरकारी दुकान है
3. ✗ ये एक अच्छे सन्यासी है
4. ✗ मैं इनके उज्ज्वल भविष्य की कामना करता हूँ

Question Number : 179 Question Id : 54592712704 Question Type : MCQ Option Shuffling : Yes Display Question Number : Yes  
Single Line Question Option : No Option Orientation : Vertical

Correct Marks : 1 Wrong Marks : 0.25

दिए गए वाक्यों में से शुद्ध वाक्य का चयन कीजिए।

Options :

1. ✓ यह गुलाब का फूल है
2. ✗ यह सस्ते गल्ले की सरकारी दुकान है
3. ✗ ये एक अच्छे सन्यासी है
4. ✗ मैं इनके उज्ज्वल भविष्य की कामना करता हूँ

Question Number : 180 Question Id : 54592712705 Question Type : MCQ Option Shuffling : Yes Display Question Number : Yes  
Single Line Question Option : No Option Orientation : Vertical

Correct Marks : 1 Wrong Marks : 0.25

दिए गए वाक्य में रेखांकित भाग किस प्रकार कारक की विभक्ति है ज्ञात कीजिए।

पेड़ से फल गिरा।

Options :

1. ✗ अधिकरण
2. ✗ संबोधन
3. ✓ अपादान
4. ✗ कर्ता

Question Number : 180 Question Id : 54592712705 Question Type : MCQ Option Shuffling : Yes Display Question Number : Yes  
Single Line Question Option : No Option Orientation : Vertical

Correct Marks : 1 Wrong Marks : 0.25

दिए गए वाक्य में रेखांकित भाग किस प्रकार कारक की विभक्ति है ज्ञात कीजिए।

पेड़ से फल गिरा।

Options :

1. ✗ अधिकरण
2. ✗ संबोधन
3. ✓ अपादान
4. ✗ कर्ता

General Hindi2

Group Number :	10
Group Id :	545927630
Group Maximum Duration :	0
Group Minimum Duration :	120
Revisit allowed for view? :	No
Revisit allowed for edit? :	No

Break time:	0
Group Marks:	20
Revisit allowed for group Instructions? :	Yes
Maximum Instruction Time:	0
Minimum Instruction Time:	0

## General Hindi2

Section Id :	545927630
Section Number :	1
Section type :	Online
Mandatory or Optional:	Mandatory
Number of Questions:	16
Number of Questions to be attempted:	16
Section Marks:	20
Display Number Panel:	Yes
Group All Questions:	No

Sub-Section Number:	1
Sub-Section Id:	545927755
Question Shuffling Allowed :	Yes

Question Number : 181 Question Id : 54592712706 Question Type : MCQ Option Shuffling : Yes Display Question Number : Yes  
Single Line Question Option : No Option Orientation : Vertical

Correct Marks : 1 Wrong Marks : 0.25

निम्नलिखित में से कौन शब्द बहुवचन नहीं है?

Options :

1. ✘ भाग्य
2. ✘ होश
3. ✘ केश
4. ✔ कॉपी

Question Number : 181 Question Id : 54592712706 Question Type : MCQ Option Shuffling : Yes Display Question Number : Yes  
Single Line Question Option : No Option Orientation : Vertical

Correct Marks : 1 Wrong Marks : 0.25

निम्नलिखित में से कौन सा शब्द बहुवचन नहीं है?

Options :

1. ✘ भाग्य
2. ✘ होश
3. ✘ केश
4. ✔ कॉपी

Question Number : 182 Question Id : 54592712707 Question Type : MCQ Option Shuffling : Yes Display Question Number : Yes  
Single Line Question Option : No Option Orientation : Vertical

Correct Marks : 1 Wrong Marks : 0.25

दिए गए वाक्य की वृत्ति के रूप की पहचान कीजिए।

तू नाच कर दिखा।

Options :

1. ✔ आज्ञार्थक

2. ✘ निश्चयार्थक
3. ✘ संदेहार्थक
4. ✘ संभावनार्थक

Question Number : 182 Question Id : 54592712707 Question Type : MCQ Option Shuffling : Yes Display Question Number : Yes  
Single Line Question Option : No Option Orientation : Vertical

Correct Marks : 1 Wrong Marks : 0.25

दिए गए वाक्य की वृत्ति के रूप की पहचान कीजिए

तू नाच कर दिखा

Options :

1. ✔ आज्ञार्थक
2. ✘ निश्चयार्थक
3. ✘ संदेहार्थक
4. ✘ संभावनार्थक

Question Number : 183 Question Id : 54592712708 Question Type : MCQ Option Shuffling : Yes Display Question Number : Yes  
Single Line Question Option : No Option Orientation : Vertical

Correct Marks : 1 Wrong Marks : 0.25

दिए गए वाच्य का कर्मवाच्य ज्ञात कीजिए

रमन लेख लिखेगा

Options :

1. ✘ रमन लेख नहीं लिखेगा
2. ✔ रमन के द्वारा लेख लिखा जाएगा
3. ✘ रमन के द्वारा लेख नहीं लिखा जाएगा
4. ✘ रमन ने लेख लिखा

Question Number : 183 Question Id : 54592712708 Question Type : MCQ Option Shuffling : Yes Display Question Number : Yes  
Single Line Question Option : No Option Orientation : Vertical

Correct Marks : 1 Wrong Marks : 0.25

दिए गए वाच्य का कर्मवाच्य ज्ञात कीजिए

रमन लेख लिखेगा

Options :

1. ✘ रमन लेख नहीं लिखेगा
2. ✔ रमन के द्वारा लेख लिखा जाएगा
3. ✘ रमन के द्वारा लेख नहीं लिखा जाएगा
4. ✘ रमन ने लेख लिखा

Question Number : 184 Question Id : 54592712709 Question Type : MCQ Option Shuffling : Yes Display Question Number : Yes  
Single Line Question Option : No Option Orientation : Vertical

Correct Marks : 1 Wrong Marks : 0.25

दिए गए वाक्य के पक्ष के रूप की पहचान कीजिए

रात में तारे चमकते हैं

Options :

1. ✔ नित्य पक्ष
2. ✘ पूर्ण पक्ष
3. ✘ अपूर्ण पक्ष

4. ✖ स्थित्यात्मक पक्ष

Question Number : 184 Question Id : 54592712709 Question Type : MCQ Option Shuffling : Yes Display Question Number : Yes  
Single Line Question Option : No Option Orientation : Vertical

Correct Marks : 1 Wrong Marks : 0.25

दिए गए वाक्य के पक्ष के रूप की पहचान कीजिए।

रात में तारे चमकते हैं।

Options :

1. ✔ नित्य पक्ष
2. ✖ पूर्ण पक्ष
3. ✖ अपूर्ण पक्ष
4. ✖ स्थित्यात्मक पक्ष

Question Number : 185 Question Id : 54592712710 Question Type : MCQ Option Shuffling : Yes Display Question Number : Yes  
Single Line Question Option : No Option Orientation : Vertical

Correct Marks : 1 Wrong Marks : 0.25

दिए गए शब्दों में से अन्य पुरुष के उदाहरण का चयन कीजिए।

Options :

1. ✖ मैंने
2. ✖ हम
3. ✖ तुमने
4. ✔ उसने

Question Number : 185 Question Id : 54592712710 Question Type : MCQ Option Shuffling : Yes Display Question Number : Yes  
Single Line Question Option : No Option Orientation : Vertical

Correct Marks : 1 Wrong Marks : 0.25

दिए गए शब्दों में से अन्य पुरुष के उदाहरण का चयन कीजिए।

Options :

1. ✖ मैंने
2. ✖ हम
3. ✖ तुमने
4. ✔ उसने

Question Number : 186 Question Id : 54592712711 Question Type : MCQ Option Shuffling : Yes Display Question Number : Yes  
Single Line Question Option : No Option Orientation : Vertical

Correct Marks : 1 Wrong Marks : 0.25

निम्नलिखित में से कौन सा वाक्य संयुक्त वाक्य का उदाहरण नहीं है?

Options :

1. ✖ साहिल हंसा और बोला।
2. ✖ आयुष आया और आते ही खेलने लगा।
3. ✖ उसने न केवल गरीब को लूटा, बल्कि उसकी हत्या भी कर दी।
4. ✔ अस्वस्थ रहने के कारण वह परीक्षा में सफल न हो सका।

Question Number : 186 Question Id : 54592712711 Question Type : MCQ Option Shuffling : Yes Display Question Number : Yes  
Single Line Question Option : No Option Orientation : Vertical

Correct Marks : 1 Wrong Marks : 0.25

निम्नलिखित में से कौन सा वाक्य संयुक्त वाक्य का उदाहरण नहीं है?

Options :

1. ✘ साहिल हँसा और बोला।
2. ✘ आयुष आया और आते ही खेलने लगा।
3. ✘ उसने न केवल गरीब को लूटा, बल्कि उसकी हत्या भी कर दी।
4. ✔ अस्वस्थ रहने के कारण वह परीक्षा में सफल न हो सका।

Question Number : 187 Question Id : 54592712712 Question Type : MCQ Option Shuffling : Yes Display Question Number : Yes  
Single Line Question Option : No Option Orientation : Vertical

Correct Marks : 1 Wrong Marks : 0.25

दिए गए वाक्य के रूप की पहचान कीजिए।

छुटी होते ही बच्चे घर चले गए।

Options :

1. ✔ सरल
2. ✘ संयुक्त
3. ✘ मिश्र
4. ✘ इनमें से कोई नहीं

Question Number : 187 Question Id : 54592712712 Question Type : MCQ Option Shuffling : Yes Display Question Number : Yes  
Single Line Question Option : No Option Orientation : Vertical

Correct Marks : 1 Wrong Marks : 0.25

दिए गए वाक्य के रूप की पहचान कीजिए।

छुटी होते ही बच्चे घर चले गए।

Options :

1. ✔ सरल
2. ✘ संयुक्त
3. ✘ मिश्र
4. ✘ इनमें से कोई नहीं

Question Number : 188 Question Id : 54592712713 Question Type : MCQ Option Shuffling : Yes Display Question Number : Yes  
Single Line Question Option : No Option Orientation : Vertical

Correct Marks : 1 Wrong Marks : 0.25

निम्नलिखित प्रश्न में, दिए गए चार विकल्पों में से, उस विकल्प का चयन करें जो दिए गए मुहावरे के अर्थ को सर्वश्रेष्ठ रूप से व्यक्त करता है।

ऐसे बूढ़े बैल को कौन बाँध भुसा देया

Options :

1. ✘ खा पीकर मोटा होना।
2. ✔ एक समय में एक ही काम हाथ में लेना चाहिए।
3. ✘ बूढ़ों की सलाह से कार्य सिद्ध हो जाते हैं।
4. ✘ अपना अहित स्वयं करना।

Question Number : 188 Question Id : 54592712713 Question Type : MCQ Option Shuffling : Yes Display Question Number : Yes  
Single Line Question Option : No Option Orientation : Vertical

Correct Marks : 1 Wrong Marks : 0.25

निम्नलिखित प्रश्न में, दिए गए चार विकल्पों में से, उस विकल्प का चयन करें जो दिए गए मुहावरे के अर्थ को सर्वश्रेष्ठ रूप से व्यक्त करता है।

ऐसे बूढ़े बैल को कौन बाँध भुसा देया

Options :

1. ✘ खा पीकर मोटा होना।
2. ✔ एक समय में एक ही काम हाथ में लेना चाहिए।



3. ✖ बूढ़ो की सलाह से कार्य सिद्ध हो जाते हैं
4. ✖ अपना अहित स्वयं करना

Question Number : 189 Question Id : 54592712714 Question Type : MCQ Option Shuffling : Yes Display Question Number : Yes  
Single Line Question Option : No Option Orientation : Vertical

Correct Marks : 1 Wrong Marks : 0.25

निम्नलिखित प्रश्न में, दिए गए चार विकल्पों में से, उस विकल्प का चयन करें जो दिए गए मुहावरे के अर्थ को सर्वश्रेष्ठ रूप से व्यक्त करता है।

ओखली में सिर देना।

Options :

1. ✖ दुविधा या सोच विचार में पड़ जाना।
2. ✖ काम अधूरा रह जाना।
3. ✖ अपने में न होना।
4. ✔ जोखिम मोल लेना।

Question Number : 189 Question Id : 54592712714 Question Type : MCQ Option Shuffling : Yes Display Question Number : Yes  
Single Line Question Option : No Option Orientation : Vertical

Correct Marks : 1 Wrong Marks : 0.25

निम्नलिखित प्रश्न में, दिए गए चार विकल्पों में से, उस विकल्प का चयन करें जो दिए गए मुहावरे के अर्थ को सर्वश्रेष्ठ रूप से व्यक्त करता है।

ओखली में सिर देना।

Options :

1. ✖ दुविधा या सोच विचार में पड़ जाना।
2. ✖ काम अधूरा रह जाना।
3. ✖ अपने में न होना।
4. ✔ जोखिम मोल लेना।

Question Number : 190 Question Id : 54592712715 Question Type : MCQ Option Shuffling : Yes Display Question Number : Yes  
Single Line Question Option : No Option Orientation : Vertical

Correct Marks : 1 Wrong Marks : 0.25

निम्नलिखित प्रश्न में, दिए गए चार विकल्पों में से, उस विकल्प का चयन करें जो दिए गए मुहावरे के अर्थ को सर्वश्रेष्ठ रूप से व्यक्त करता है।

ओछे की प्रीत, बालू की भीता

Options :

1. ✖ किसी के साथ साझा न करना।
2. ✖ अपनी परिस्थिति से संतुष्ट रहे।
3. ✖ अलग - थलग रहना।
4. ✔ किसी भी रूप में गिर आदमी की दोस्ती अधिक दिन तक नहीं चलती।

Question Number : 190 Question Id : 54592712715 Question Type : MCQ Option Shuffling : Yes Display Question Number : Yes  
Single Line Question Option : No Option Orientation : Vertical

Correct Marks : 1 Wrong Marks : 0.25

निम्नलिखित प्रश्न में, दिए गए चार विकल्पों में से, उस विकल्प का चयन करें जो दिए गए मुहावरे के अर्थ को सर्वश्रेष्ठ रूप से व्यक्त करता है।

ओछे की प्रीत, बालू की भीता

Options :

1. ✖ किसी के साथ साझा न करना।
2. ✖ अपनी परिस्थिति से संतुष्ट रहे।
3. ✖ अलग - थलग रहना।
4. ✔ किसी भी रूप में गिर आदमी की दोस्ती अधिक दिन तक नहीं चलती।

Question Number : 191 Question Id : 54592712716 Question Type : MCQ Option Shuffling : Yes Display Question Number : Yes  
Single Line Question Option : No Option Orientation : Vertical

Correct Marks : 1 Wrong Marks : 0.25

निम्नलिखित प्रश्न में, दिए गए चार विकल्पों में से, उस विकल्प का चयन करें जो दिए गए मुहावरे के अर्थ को सर्वश्रेष्ठ रूप से व्यक्त करता है।

अपनी बात से पलट जाना।

Options :

1. ✓ एक मुँह दो बातों
2. ✗ अटेकगा सो भरकेगा।
3. ✗ अनजान सुजान सदा कल्याणा।
4. ✗ अपनी - अपनी खाल में सब खुशा।

Question Number : 191 Question Id : 54592712716 Question Type : MCQ Option Shuffling : Yes Display Question Number : Yes  
Single Line Question Option : No Option Orientation : Vertical

Correct Marks : 1 Wrong Marks : 0.25

निम्नलिखित प्रश्न में, दिए गए चार विकल्पों में से, उस विकल्प का चयन करें जो दिए गए मुहावरे के अर्थ को सर्वश्रेष्ठ रूप से व्यक्त करता है।

अपनी बात से पलट जाना।

Options :

1. ✓ एक मुँह दो बातों
2. ✗ अटेकगा सो भरकेगा।
3. ✗ अनजान सुजान सदा कल्याणा।
4. ✗ अपनी - अपनी खाल में सब खुशा।

Question Number : 192 Question Id : 54592712717 Question Type : MCQ Option Shuffling : Yes Display Question Number : Yes  
Single Line Question Option : No Option Orientation : Vertical

Correct Marks : 1 Wrong Marks : 0.25

निम्नलिखित प्रश्न में, दिए गए चार विकल्पों में से, उस विकल्प का चयन करें जो दिए गए मुहावरे के अर्थ को सर्वश्रेष्ठ रूप से व्यक्त करता है।

एक आँख से रो, एक आँख से हसे।

Options :

1. ✗ अपनी इज्जत अपने हाथ होती है।
2. ✓ दिखावटी रोना।
3. ✗ अपनी भलाई देखो।
4. ✗ अपनी बड़ाई खुद ही करना।

Question Number : 192 Question Id : 54592712717 Question Type : MCQ Option Shuffling : Yes Display Question Number : Yes  
Single Line Question Option : No Option Orientation : Vertical

Correct Marks : 1 Wrong Marks : 0.25

निम्नलिखित प्रश्न में, दिए गए चार विकल्पों में से, उस विकल्प का चयन करें जो दिए गए मुहावरे के अर्थ को सर्वश्रेष्ठ रूप से व्यक्त करता है।

एक आँख से रो, एक आँख से हसे।

Options :

1. ✗ अपनी इज्जत अपने हाथ होती है।
2. ✓ दिखावटी रोना।
3. ✗ अपनी भलाई देखो।
4. ✗ अपनी बड़ाई खुद ही करना।

Question Number : 193 Question Id : 54592712718 Question Type : MCQ Option Shuffling : Yes Display Question Number : Yes  
Single Line Question Option : No Option Orientation : Vertical

Correct Marks : 1 Wrong Marks : 0.25

किसी पद का अर्थ दर्शाने के लिए किस विराम चिह्न का प्रयोग किया जाता है?

Options :

1. ✓ कोष्ठक ()
2. ✗ लाघव (.)
3. ✗ उद्धरण (" ")
4. ✗ विवरण (-)

Question Number : 193 Question Id : 54592712718 Question Type : MCQ Option Shuffling : Yes Display Question Number : Yes  
Single Line Question Option : No Option Orientation : Vertical

Correct Marks : 1 Wrong Marks : 0.25

किसी पद का अर्थ दर्शाने के लिए किस विराम चिह्न का प्रयोग किया जाता है?

Options :

1. ✓ कोष्ठक ()
2. ✗ लाघव (.)
3. ✗ उद्धरण (" ")
4. ✗ विवरण (-)

Question Number : 194 Question Id : 54592712719 Question Type : MCQ Option Shuffling : Yes Display Question Number : Yes  
Single Line Question Option : No Option Orientation : Vertical

Correct Marks : 1 Wrong Marks : 0.25

विस्वयदिबोधक का चिह्न कौन सा है?

Options :

1. ✗ (?)
2. ✓ (!)
3. ✗ (|)
4. ✗ (.)

Question Number : 194 Question Id : 54592712719 Question Type : MCQ Option Shuffling : Yes Display Question Number : Yes  
Single Line Question Option : No Option Orientation : Vertical

Correct Marks : 1 Wrong Marks : 0.25

विस्वयदिबोधक का चिह्न कौन सा है?

Options :

1. ✗ (?)
2. ✓ (!)
3. ✗ (|)
4. ✗ (.)

Question Number : 195 Question Id : 54592712720 Question Type : MCQ Option Shuffling : Yes Display Question Number : Yes  
Single Line Question Option : No Option Orientation : Vertical

Correct Marks : 1 Wrong Marks : 0.25

दिए गए वाक्य में किस क्रम में सही विराम चिह्न है ज्ञात कीजिए।

सैनिक अपने आप को तैयार कर रणक्षेत्र में उतर पड़े।

Options :

1. ✓ ,
2. ✗ :-
3. ✗ ;
4. ✗ .

Question Number : 195 Question Id : 54592712720 Question Type : MCQ Option Shuffling : Yes Display Question Number : Yes  
Single Line Question Option : No Option Orientation : Vertical

Correct Marks : 1 Wrong Marks : 0.25

दिए गए वाक्य में किस क्रम में सही विराम चिह्न है ज्ञात कीजिए।

सैनिक अपने आप को तैयार कर रणक्षेत्र में उतर पड़े।

Options :

1. ✓ ,
2. ✗ :-
3. ✗ ;
4. ✗ .

Sub-Section Number: 2  
Sub-Section Id: 545927756  
Question Shuffling Allowed : Yes

Question Id : 54592712721 Question Type : COMPREHENSION Sub Question Shuffling Allowed : Yes Group Comprehension  
Questions : No

Question Numbers : (196 to 200)

Question Label : Comprehension

गद्यांश को ध्यानपूर्वक पढ़ें तथा प्रत्येक प्रश्न में चार विकल्पों में से सही विकल्प चुनें।

न जाने किसने यह लिखना-पढ़ना बना दिया है मैं छोटा सा था, यही कोई अढ़ाई 3 वर्ष का तो मम्मी-पापा ने विद्यालय में डाल दिया। भारी बस्ता, कॉपियां, पुस्तकें जो उठानी शुरू की थीं; अब तक उठा रहा हूँ। दिन चढ़ते ही बस-स्टॉप पर पहुंचने की जल्दी मच जाती है। गर्मी हो, बरसात हो या कड़ाकेदार ठंड स्कूल बस पकड़कर स्कूल पहुंचने की दौड़ शुरू हो जाती है। फिर तो बस एक से बढ़कर एक विषय पढ़ाते जाइए। अध्यापक-अध्यापिकाओं की बातें सुनते जाइए। छोटे-छोटे बच्चे और गणित, कंप्यूटर-साइंस, पर्यावरण, हिंदी, अंग्रेजी, विज्ञान, नैतिक शिक्षा, सामाजिक व विज्ञान -उफा! क्यों लाद दिए जाते हैं इतने विषय! खेलना-कूदना, मनोरंजन, खाना-पीना, सब पढ़ाई के बोझ तले दब गया है। नन्हा सा बच्चा विद्यालय में प्रवेश लेता है और 12वीं करते-करते 18 वर्ष का हो जाता है। यह विद्यालय उनके सारे बचपन को निगल जाते हैं। काश विद्यालय ना होते तो मज़े ही मज़े होते।

Sub questions

Question Number : 196 Question Id : 54592712722 Question Type : MCQ Option Shuffling : Yes Display Question Number : Yes  
Single Line Question Option : No Option Orientation : Vertical

Correct Marks : 1 Wrong Marks : 0.25

बच्चे कब पढ़ने के लिए स्कूल जाने लगते हैं?

Options :

1. ✗ पाँच वर्ष
2. ✓ अढ़ाई - 3 वर्ष
3. ✗ 1 वर्ष
4. ✗ 10 वर्ष

Question Number : 197 Question Id : 54592712723 Question Type : MCQ Option Shuffling : Yes Display Question Number : Yes  
Single Line Question Option : No Option Orientation : Vertical

Correct Marks : 1 Wrong Marks : 0.25

उपर्युक्त गद्यांश का शीर्षक क्या है?

Options :

1. ✗ विद्यालय का महत्त्व
2. ✓ काश ये विद्यालय न होते
3. ✗ अनिवार्य विषय
4. ✗ खेलकूद

Question Number : 198 Question Id : 54592712724 Question Type : MCQ Option Shuffling : Yes Display Question Number : Yes  
Single Line Question Option : No Option Orientation : Vertical

Correct Marks : 1 Wrong Marks : 0.25

विद्यालय बच्चे का क्या निगल जाते हैं?

Options :

1. ✘ खाना
2. ✔ बचपन
3. ✘ जवानी
4. ✘ बुढ़ापा

Question Number : 199 Question Id : 54592712725 Question Type : MCQ Option Shuffling : Yes Display Question Number : Yes  
Single Line Question Option : No Option Orientation : Vertical

Correct Marks : 1 Wrong Marks : 0.25

बोझ तले दब जाने का क्या अर्थ है?

Options :

1. ✘ भारी बस्ता
2. ✔ अत्यधिक विषय पढ़ना
3. ✘ सामान ढोना
4. ✘ मलबे में दब जाना

Question Number : 200 Question Id : 54592712726 Question Type : MCQ Option Shuffling : Yes Display Question Number : Yes  
Single Line Question Option : No Option Orientation : Vertical

Correct Marks : 1 Wrong Marks : 0.25

यह विद्यालय न होते तो क्या होता?

Options :

1. ✘ बाढ़ आ जाती
2. ✔ मज़े ही मज़े होते
3. ✘ तुफ़ान आ जाता
4. ✘ चारों तरफ़ रोशनी होती

Question Id : 54592712721 Question Type : COMPREHENSION Sub Question Shuffling Allowed : Yes Group Comprehension  
Questions : No

Question Numbers : (196 to 200)

Question Label : Comprehension

गद्यांश को ध्यानपूर्वक पढ़ें तथा प्रत्येक प्रश्न में चार विकल्पों में से सही विकल्प चुनें

न जाने किसने यह लिखना-पढ़ना बना दिया है। मैं छोटा सा था, यही कोई अढ़ाई 3 वर्ष का तो मम्मी-पापा ने विद्यालय में डाल दिया। भारी बस्ता, कॉपियां, पुस्तकें जो उठानी शुरू की थीं; अब तक उठा रहा हूँ। दिन चढ़ते ही बस-स्टॉप पर पहुंचने की जल्दी मच जाती है। गर्मी हो, बरसात हो या कड़ाकेदार ठंड स्कूल बस पकड़कर स्कूल पहुंचने की दौड़ शुरू हो जाती है। फिर तो बस एक से बढ़कर एक विषय पढ़ाते जाइए। अध्यापक-अध्यापिकाओं की बातें सुनते जाइए। छोटे-छोटे बच्चे और गणित, कंप्यूटर-साइंस, पर्यावरण, हिंदी, अंग्रेजी, विज्ञान, नैतिक शिक्षा, सामाजिक व विज्ञान-उफ! क्यों लाद दिए जाते हैं इतने विषय! खेलना-कूदना, मनोरंजन, खाना-पीना, सब पढ़ाई के बोझ तले दब गया है। नन्हा सा बच्चा विद्यालय में प्रवेश लेता है और 12वीं करते-करते 18 वर्ष का हो जाता है। यह विद्यालय उनके सारे बचपन को निगल जाते हैं। काश विद्यालय ना होते तो मज़े ही मज़े होते।

Sub questions

Question Number : 196 Question Id : 54592712722 Question Type : MCQ Option Shuffling : Yes Display Question Number : Yes  
Single Line Question Option : No Option Orientation : Vertical

Correct Marks : 1 Wrong Marks : 0.25

बच्चे कब पढ़ने के लिए स्कूल जाने लगते हैं?

Options :

1. ✘ पाँच वर्ष

2. ✓ अढ़ाई - 3 वर्ष

3. ✗ 1 वर्ष

4. ✗ 10 वर्ष

Question Number : 197 Question Id : 54592712723 Question Type : MCQ Option Shuffling : Yes Display Question Number : Yes  
Single Line Question Option : No Option Orientation : Vertical

Correct Marks : 1 Wrong Marks : 0.25

उपर्युक्त गद्यांश का शीर्षक क्या है?

Options :

1. ✗ विद्यालय का महत्वा

2. ✓ काश ये विद्यालय न होते

3. ✗ अनिवार्य विषया

4. ✗ खेलकूदा

Question Number : 198 Question Id : 54592712724 Question Type : MCQ Option Shuffling : Yes Display Question Number : Yes  
Single Line Question Option : No Option Orientation : Vertical

Correct Marks : 1 Wrong Marks : 0.25

विद्यालय बच्चे का क्या निगल जाते हैं?

Options :

1. ✗ खाना

2. ✓ बचपन

3. ✗ जवानी

4. ✗ बुढ़ापा

Question Number : 199 Question Id : 54592712725 Question Type : MCQ Option Shuffling : Yes Display Question Number : Yes  
Single Line Question Option : No Option Orientation : Vertical

Correct Marks : 1 Wrong Marks : 0.25

बोझ तले दब जाने का क्या अर्थ है?

Options :

1. ✗ भारी बस्ता

2. ✓ अत्यधिक विषय पढ़ना

3. ✗ सामान ढोना

4. ✗ मलबे में दब जाना

Question Number : 200 Question Id : 54592712726 Question Type : MCQ Option Shuffling : Yes Display Question Number : Yes  
Single Line Question Option : No Option Orientation : Vertical

Correct Marks : 1 Wrong Marks : 0.25

यह विद्यालय न होते तो क्या होता?

Options :

1. ✗ बाढ़ आ जाती

2. ✓ मज़े ही मज़े होते

3. ✗ तुफ़ान आ जाता

4. ✗ चारों तरफ़ रोशनी होती