

Education Consultant India Ltd.

Notations :

- 1.Options shown in green color and with ✓ icon are correct.
- 2.Options shown in red color and with ✘ icon are incorrect.

Question Paper Name:	Lower Division Clerk 23rd August 2019 S3
Subject Name:	LOWER DIVISION CLERK
Creation Date:	2019-08-23 19:25:09
Duration:	120
Total Marks:	200
Display Marks:	Yes
Share Answer Key With Delivery Engine:	No
Actual Answer Key:	Yes
Calculator:	None
Magnifying Glass Required?:	No
Ruler Required?:	No
Eraser Required?:	No
Scratch Pad Required?:	No
Rough Sketch/Notepad Required?:	No
Protractor Required?:	No
Show Watermark on Console?:	Yes
Highlighter:	No
Auto Save on Console?:	No

Mental Ability 1

Group Number :	1
Group Id :	545927461
Group Maximum Duration :	0
Group Minimum Duration :	0
Revisit allowed for view? :	No
Revisit allowed for edit? :	No
Break time:	0
Group Marks:	20
Revisit allowed for group Instructions? :	Yes
Maximum Instruction Time:	0
Minimum Instruction Time:	0

Mental Ability 1

Section Id :	545927461
Section Number :	1
Section type :	Online
Mandatory or Optional:	Mandatory
Number of Questions:	20
Number of Questions to be attempted:	20
Section Marks:	20

Display Number Panel: Yes
Group All Questions: No

Sub-Section Number: 1
Sub-Section Id: 545927553
Question Shuffling Allowed : Yes

Question Number : 1 Question Id : 5459279293 Question Type : MCQ Option Shuffling : Yes Display Question Number : Yes
Single Line Question Option : No Option Orientation : Vertical

Correct Marks : 1 Wrong Marks : 0.25

Arrange the given words in the sequence in which they occur in the English dictionary.

1. Wordsmith
2. Workaholic
3. Worthwhile
4. Worshipful
5. Worklessly

Options :

1. ✘ 12453
2. ✔ 12543
3. ✘ 31245
4. ✘ 31254

Question Number : 1 Question Id : 5459279293 Question Type : MCQ Option Shuffling : Yes Display Question Number : Yes
Single Line Question Option : No Option Orientation : Vertical

Correct Marks : 1 Wrong Marks : 0.25

निम्नलिखित शब्दों को अंग्रेजी शब्दकोश में आने वाले क्रम के अनुसार लिखें

1. Wordsmith
2. Workaholic
3. Worthwhile
4. Worshipful
5. Worklessly

Options :

1. ✘ 12453
2. ✔ 12543
3. ✘ 31245
4. ✘ 31254

Question Number : 2 Question Id : 5459279294 Question Type : MCQ Option Shuffling : Yes Display Question Number : Yes
Single Line Question Option : No Option Orientation : Vertical

Correct Marks : 1 Wrong Marks : 0.25

A series is given with one term wrong. Select that wrong term from the given alternatives.

FJ100, CF160, ZB294, WX448, TT648

Options :

1. ✘ FJ100
2. ✔ CF160
3. ✘ TT648
4. ✘ WX448

Question Number : 2 Question Id : 5459279294 Question Type : MCQ Option Shuffling : Yes Display Question Number : Yes
Single Line Question Option : No Option Orientation : Vertical

Correct Marks : 1 Wrong Marks : 0.25

एक अनुक्रम दिया गया है, जिसमें से एक पद गलत है। दिए गए विकल्पों में से उस गलत पद को चुनिए।

FJ100, CF160, ZB294, WX448, TT648

Options :

1. ✘ FJ100
2. ✔ CF160
3. ✘ TT648
4. ✘ WX448

Question Number : 3 Question Id : 5459279295 Question Type : MCQ Option Shuffling : Yes Display Question Number : Yes
Single Line Question Option : No Option Orientation : Vertical

Correct Marks : 1 Wrong Marks : 0.25

A series is given with one term missing. Select the correct alternative from the given ones that will complete the series.

MO, JL, GI, DF, ?

Options :

1. ✘ BD
2. ✘ AD
3. ✔ AC
4. ✘ AB

Question Number : 3 Question Id : 5459279295 Question Type : MCQ Option Shuffling : Yes Display Question Number : Yes
Single Line Question Option : No Option Orientation : Vertical

Correct Marks : 1 Wrong Marks : 0.25

एक अनुक्रम दिया गया है, जिसमें से एक पद लुप्त है। दिए गए विकल्पों में से वह सही विकल्प चुनिए, जो अनुक्रम को पूरा करे।

MO, JL, GI, DF, ?

Options :

1. ✘ BD
2. ✘ AD
3. ✔ AC
4. ✘ AB

Question Number : 4 Question Id : 5459279296 Question Type : MCQ Option Shuffling : Yes Display Question Number : Yes
Single Line Question Option : No Option Orientation : Vertical

Correct Marks : 1 Wrong Marks : 0.25

In the following question, select the odd letter /letters from the given alternatives.

Options :

1. ✘ KLM
2. ✘ PQR
3. ✔ TUW
4. ✘ YZA

Question Number : 4 Question Id : 5459279296 Question Type : MCQ Option Shuffling : Yes Display Question Number : Yes
Single Line Question Option : No Option Orientation : Vertical

Correct Marks : 1 Wrong Marks : 0.25

निम्नलिखित प्रश्न में दिए गए विकल्पों में से विषम अक्षर/अक्षरों को चुनिए।

Options :

1. ✘ KLM
2. ✘ PQR
3. ✔ TUW
4. ✘ YZA

Question Number : 5 Question Id : 5459279297 Question Type : MCQ Option Shuffling : Yes Display Question Number : Yes
Single Line Question Option : No Option Orientation : Vertical

Correct Marks : 1 Wrong Marks : 0.25

In the following question, four letter pairs are given. The letters on left side of (-) are related to the letters on the right side of (-) with some Logic/Rule/Relation. Three options are similar on basis of same Logic/Rule/Relation. Select the odd one out from the given alternatives options.

Options :

1. ✘ MANT : NTMA
2. ✘ VANI : NIVA
3. ✔ ROUX : XUOR
4. ✘ OZFM : FMOZ

Question Number : 5 Question Id : 5459279297 Question Type : MCQ Option Shuffling : Yes Display Question Number : Yes
Single Line Question Option : No Option Orientation : Vertical

Correct Marks : 1 Wrong Marks : 0.25

नीचे दिए गए प्रश्न में, चार अक्षर युग्म दिए गए हैं। (-) के बायीं ओर दिये गये अक्षर (-) के दायीं ओर दिये गये अक्षरों से किसी तर्क/नियम/संबंध से संबंधित है। तीन विकल्प उसी एक तर्क/नियम/संबंध के आधार पर समान हैं। दिए गए विकल्पों में से विषम को चुनिए।

Options :

1. ✘ MANT : NTMA
2. ✘ VANI : NIVA
3. ✔ ROUX : XUOR
4. ✘ OZFM : FMOZ

Question Number : 6 Question Id : 5459279298 Question Type : MCQ Option Shuffling : Yes Display Question Number : Yes
Single Line Question Option : No Option Orientation : Vertical

Correct Marks : 1 Wrong Marks : 0.25

In the following question, select the odd word from the given alternatives.

Options :

1. ✘ Physics
2. ✔ Subject
3. ✘ Chemistry
4. ✘ Hindi

Question Number : 6 Question Id : 5459279298 Question Type : MCQ Option Shuffling : Yes Display Question Number : Yes
Single Line Question Option : No Option Orientation : Vertical

Correct Marks : 1 Wrong Marks : 0.25

निम्नलिखित प्रश्न में दिए गए विकल्पों में से विषम शब्द को चुनिए।

Options :

1. ✘ भौतिकी
2. ✔ विषय
3. ✘ रसायन शास्त्र
4. ✘ हिंदी

Question Number : 7 Question Id : 5459279299 Question Type : MCQ Option Shuffling : Yes Display Question Number : Yes
Single Line Question Option : No Option Orientation : Vertical

Correct Marks : 1 Wrong Marks : 0.25

In the following question, Select the word-number pair that shares the same relationship as shared between the word-number pair below.

Lion : 4 :: ?

Note: For this question, discrepancy is found in question/answer. So, this question is ignored for all candidates.

Options :

1. Hen : 2
2. Dog : 3
3. Cat : 4
4. Eagle : 4

Question Number : 7 Question Id : 5459279299 Question Type : MCQ Option Shuffling : Yes Display Question Number : Yes
Single Line Question Option : No Option Orientation : Vertical

Correct Marks : 1 Wrong Marks : 0.25

निम्नलिखित प्रश्न में दिए गए विकल्पों में से उस शब्द - नंबर युग्म को चुने जो वही संबंध रखती है जो संबंध नीचे दिए हुए शब्द - नंबर के युग्म में मौजूद है।

सिंह : 4 :: ?

Note: For this question, discrepancy is found in question/answer. So, this question is ignored for all candidates.

Options :

1. मुर्गी : 2
2. कुत्ता : 3
3. बिल्ली : 4
4. चील : 4

Question Number : 8 Question Id : 5459279300 Question Type : MCQ Option Shuffling : Yes Display Question Number : Yes
Single Line Question Option : No Option Orientation : Vertical

Correct Marks : 1 Wrong Marks : 0.25

Select the word that is related to the third word in the same way as the second word is related to the first word.

Happy : Sad :: Young : ?

Options :

1. ✓ Old
2. ✗ Age
3. ✗ Time
4. ✗ Man

Question Number : 8 Question Id : 5459279300 Question Type : MCQ Option Shuffling : Yes Display Question Number : Yes
Single Line Question Option : No Option Orientation : Vertical

Correct Marks : 1 Wrong Marks : 0.25

निम्नलिखित प्रश्न में उस शब्द को चुने जो तीसरे शब्द से उसी प्रकार संबंध रखता है जो संबंध दूसरा शब्द पहले शब्द से रखता है।

खुश : उदास :: युवा : ?

Options :

1. ✓ वृद्ध
2. ✗ आयु
3. ✗ समय

4. ✘ पुरुष

Question Number : 9 Question Id : 5459279301 Question Type : MCQ Option Shuffling : Yes Display Question Number : Yes
Single Line Question Option : No Option Orientation : Vertical

Correct Marks : 1 Wrong Marks : 0.25

Select the term that is related to the third term in the same way as second term is related to the first term.

ABCD : FGHI :: PQRS : ?

Options :

1. ✔ UVWX
2. ✘ VWXY
3. ✘ WXYZ
4. ✘ YWYZ

Question Number : 9 Question Id : 5459279301 Question Type : MCQ Option Shuffling : Yes Display Question Number : Yes
Single Line Question Option : No Option Orientation : Vertical

Correct Marks : 1 Wrong Marks : 0.25

निम्नलिखित प्रश्न में उस पद को चुने जो तीसरे पद से उसी प्रकार संबंधित है जिस प्रकार दूसरा पद पहले पद से संबंधित है

ABCD : FGHI :: PQRS : ?

Options :

1. ✔ UVWX
2. ✘ VWXY
3. ✘ WXYZ
4. ✘ YWYZ

Question Number : 10 Question Id : 5459279302 Question Type : MCQ Option Shuffling : Yes Display Question Number : Yes
Single Line Question Option : No Option Orientation : Vertical

Correct Marks : 1 Wrong Marks : 0.25

In a certain code language, 'BIRD' is called as 'CAT', 'CAT' is called as 'RAT', 'RAT' is called as 'BLUE', 'BLUE' is called as 'COLOUR', 'COLOUR' is called as 'SOFT'. Which could be the color of RAT?

Options :

1. ✘ BLUE
2. ✔ COLOUR
3. ✘ SOFT
4. ✘ BIRD

Question Number : 10 Question Id : 5459279302 Question Type : MCQ Option Shuffling : Yes Display Question Number : Yes
Single Line Question Option : No Option Orientation : Vertical

Correct Marks : 1 Wrong Marks : 0.25

एक विशिष्ट कोड भाषा में, 'पक्षी' को 'बिल्ली' कहा जाता है, 'बिल्ली' को 'चूहा' कहा जाता है, 'चूहा' को 'नीला' कहा जाता है, 'नीला' को 'रंग' कहा जाता है, 'रंग' को 'मुलायम' कहा जाता है, तो निम्नलिखित में से आकाश का रंग क्या होगा?

Options :

1. ✘ नीला
2. ✔ रंग
3. ✘ मुलायम
4. ✘ पक्षी

Question Number : 11 Question Id : 5459279303 Question Type : MCQ Option Shuffling : Yes Display Question Number : Yes
Single Line Question Option : No Option Orientation : Vertical

Correct Marks : 1 Wrong Marks : 0.25

In a certain code language, 'FRIZ' is written as '56', 'GAME' is written as '23'. What is the code for 'GING' in that code language?

Options :

1. ✘ 33
2. ✘ 35
3. ✔ 34
4. ✘ 36

Question Number : 11 Question Id : 5459279303 Question Type : MCQ Option Shuffling : Yes Display Question Number : Yes
Single Line Question Option : No Option Orientation : Vertical

Correct Marks : 1 Wrong Marks : 0.25

एक विशिष्ट कोड भाषा में, 'FRIZ' को '56' लिखा जाता है, 'GAME' को '23' लिखा जाता है। इस कोड भाषा में 'GING' का कोड क्या है?

Options :

1. ✘ 33
2. ✘ 35
3. ✔ 34
4. ✘ 36

Question Number : 12 Question Id : 5459279304 Question Type : MCQ Option Shuffling : Yes Display Question Number : Yes
Single Line Question Option : No Option Orientation : Vertical

Correct Marks : 1 Wrong Marks : 0.25

In a certain code language, 'BETTED' is written as 'GZYOJY'. What is the code for 'SKEW' in that code language?

Options :

1. ✘ XGJR
2. ✘ XFRK
3. ✔ XFJR
4. ✘ XSJF

Question Number : 12 Question Id : 5459279304 Question Type : MCQ Option Shuffling : Yes Display Question Number : Yes
Single Line Question Option : No Option Orientation : Vertical

Correct Marks : 1 Wrong Marks : 0.25

एक विशिष्ट कोड भाषा में, 'BETTED' को 'GZYOJY' लिखा जाता है। इस कोड भाषा में 'SKEW' का कोड क्या है?

Options :

1. ✘ XGJR
2. ✘ XFRK
3. ✔ XFJR
4. ✘ XSJF

Question Number : 13 Question Id : 5459279305 Question Type : MCQ Option Shuffling : Yes Display Question Number : Yes
Single Line Question Option : No Option Orientation : Vertical

Correct Marks : 1 Wrong Marks : 0.25

Six events P, Q, R, S, T and U are to be organized in a span of seven days from Sunday to Saturday. Only one event is organised in a day. P should be immediately followed by S. U should not be organized on Thursday. There should be a gap of two days between Q and R. One day there will be no event (Friday is not that day), just before that day R will be organised. T should be organised on Tuesday and should not be followed by R. Which event will be organized on Wednesday?

Options :

1. ✘ U
2. ✘ R

3. ✓ Q

4. ✗ No event will be organised

Question Number : 13 Question Id : 5459279305 Question Type : MCQ Option Shuffling : Yes Display Question Number : Yes
Single Line Question Option : No Option Orientation : Vertical

Correct Marks : 1 Wrong Marks : 0.25

रविवार से शनिवार तक सात दिनों की अवधि में छह कार्यक्रम P, Q, R, S, T और U का आयोजन किया जाना है। एक दिन में केवल एक कार्यक्रम आयोजित किया जाता है। P को तुरंत होना चाहिए। S, U को गुरुवार को आयोजित नहीं किया जाना चाहिए। Q और R के बीच दो दिनों का अंतर होना चाहिए। एक दिन कोई आयोजन नहीं होगा (शुक्रवार उस दिन नहीं है), उस दिन से पहले R का आयोजन किया जाएगा। T को मंगलवार को आयोजित किया जाना चाहिए और R का पालन नहीं करना चाहिए। बुधवार को कौन सा आयोजन किया जाएगा?

Options :

1. ✗ U

2. ✗ R

3. ✓ Q

4. ✗ कोई कार्यक्रम आयोजित नहीं किया जाएगा

Question Number : 14 Question Id : 5459279306 Question Type : MCQ Option Shuffling : Yes Display Question Number : Yes
Single Line Question Option : No Option Orientation : Vertical

Correct Marks : 1 Wrong Marks : 0.25

A is daughter of B. B and C are brothers. D is the father of C. E is the daughter of D. Which of the following statements is correct?

Options :

1. ✓ E is the paternal aunt of A

2. ✗ B is the mother of A

3. ✗ C and E are sisters

4. ✗ E and A are brothers

Question Number : 14 Question Id : 5459279306 Question Type : MCQ Option Shuffling : Yes Display Question Number : Yes
Single Line Question Option : No Option Orientation : Vertical

Correct Marks : 1 Wrong Marks : 0.25

A, B की पुत्री है। B और C भाई हैं। D, C का पिता है। E, D की पुत्री है। निम्नलिखित में से कौन सा कथन सही है?

Options :

1. ✓ E, A की बुआ/चाची है

2. ✗ B, A की माता है

3. ✗ C और E बहनें हैं

4. ✗ E और A भाई हैं

Question Number : 15 Question Id : 5459279307 Question Type : MCQ Option Shuffling : Yes Display Question Number : Yes
Single Line Question Option : No Option Orientation : Vertical

Correct Marks : 1 Wrong Marks : 0.25

A and B are children of C but B is not the daughter of C. How is B related to C?

Options :

1. ✗ Sister

2. ✗ Brother

3. ✓ Son

4. ✗ Daughter

Question Number : 15 Question Id : 5459279307 Question Type : MCQ Option Shuffling : Yes Display Question Number : Yes
Single Line Question Option : No Option Orientation : Vertical

Correct Marks : 1 Wrong Marks : 0.25

A और B, C के बच्चे हैं लेकिन B, C की पुत्री नहीं है। B, C से किस प्रकार संबंधित है?

Options :

1. ✘ बहन
2. ✘ भाई
3. ✔ पुत्र
4. ✘ पुत्री

Question Number : 16 Question Id : 5459279308 Question Type : MCQ Option Shuffling : Yes Display Question Number : Yes
Single Line Question Option : No Option Orientation : Vertical

Correct Marks : 1 Wrong Marks : 0.25

Eight students A, B, C, D, E, F, G and H are sitting around a circular table facing towards the centre. A and F are sitting together. Only B is sitting between G and D. G is sitting opposite to F. E is sitting to the immediate right of A. C is third to the left of D. Which of the following statement(s) is/are correct?

- I. C is sitting to the immediate right of G.
- II. A is sitting opposite to B.
- III. F is second to the left of E.
- IV. G is sitting to the immediate right of B.

Options :

1. ✘ Only II
2. ✘ III and IV
3. ✘ I and IV
4. ✔ II and III

Question Number : 16 Question Id : 5459279308 Question Type : MCQ Option Shuffling : Yes Display Question Number : Yes
Single Line Question Option : No Option Orientation : Vertical

Correct Marks : 1 Wrong Marks : 0.25

आठ विद्यार्थी A, B, C, D, E, F, G और H केन्द्र की ओर मुख करके एक वृत्ताकार मेज के इर्द - गिर्द बैठे हैं। A और F एक साथ बैठे हैं। G और D के बीच में केवल B बैठा है। G, F के विपरीत बैठा है। E, A के तुरंत दायीं ओर बैठा है। C, D के बायीं ओर तीसरा है। निम्नलिखित में से कौन सा/से कथन सही है/हैं?

- I. C, G के तुरंत दायीं ओर बैठा है।
- II. A, B के विपरीत बैठा है।
- III. F, E के बायीं ओर दूसरा है।
- IV. G, B के तुरंत दायीं ओर बैठा है।

Options :

1. ✘ केवल II
2. ✘ III और IV
3. ✘ I और IV
4. ✔ II और III

Question Number : 17 Question Id : 5459279309 Question Type : MCQ Option Shuffling : Yes Display Question Number : Yes
Single Line Question Option : No Option Orientation : Vertical

Correct Marks : 1 Wrong Marks : 0.25

Raja, Ram, Mohan, Ravi and Raghav are five brothers. Raja is 6 years older than Ram and Raghav is 5 years older than Ram. Raja is 9 years younger than Mohan and 4 years older to Ravi. If the age of Ravi is 10 years, then what is the sum of the ages of all five brothers?

Options :

1. ✘ 64 years
2. ✔ 68 years
3. ✘ 72 years

4. ✘ 86 years

Question Number : 17 Question Id : 5459279309 Question Type : MCQ Option Shuffling : Yes Display Question Number : Yes Single Line Question Option : No Option Orientation : Vertical

Correct Marks : 1 Wrong Marks : 0.25

राजा, राम, मोहन, रवि तथा राघव पाँच भाई हैं। राजा, राम से 6 वर्ष बड़ा है और राघव, राम से 5 वर्ष बड़ा है। राजा, मोहन से 9 वर्ष छोटा है और रवि से 4 वर्ष बड़ा है। यदि रवि की आयु 10 वर्ष है, तो सभी पाँच भाइयों की आयु का योग क्या है?

Options :

1. ✘ 64 वर्ष
2. ✔ 68 वर्ष
3. ✘ 72 वर्ष
4. ✘ 86 वर्ष

Question Number : 18 Question Id : 5459279310 Question Type : MCQ Option Shuffling : Yes Display Question Number : Yes Single Line Question Option : No Option Orientation : Vertical

Correct Marks : 1 Wrong Marks : 0.25

Below are given some statements followed by some conclusions based on those statements. Take the given statements to be true even if they seem to be at variance from commonly known facts. Read all the conclusions and then decide which of the given conclusion logically follow(s) the given statements.

Statements:

- I. All pens are chairs.
- II. Some chairs are pencils.

Conclusions:

- I. Some pencils are pens.
- II. Some pencils are chairs.

Options :

1. ✘ Only conclusion I follows
2. ✔ Only conclusion II follows
3. ✘ Both conclusion I and II follow
4. ✘ Neither conclusion follows

Question Number : 18 Question Id : 5459279310 Question Type : MCQ Option Shuffling : Yes Display Question Number : Yes Single Line Question Option : No Option Orientation : Vertical

Correct Marks : 1 Wrong Marks : 0.25

कुछ कथन और उनके बाद उन कथनों पर आधारित कुछ निष्कर्ष दिए गए हैं। दिए गए कथनों को सही माने, चाहे उनमें सामान्य ज्ञात तथ्यों से भिन्नता हो। सभी निष्कर्ष पढ़ें और फिर निर्धारित करें कि दिए गए कौन से निष्कर्ष, दिए गए कथनों के आधार पर युक्तिसंगत हैं।

कथन:

- I. सभी कलम कुर्सियाँ हैं।
- II. कुछ कुर्सियाँ पेंसिल हैं।

निष्कर्ष:

- I. कुछ पेंसिल कलम हैं।
- II. कुछ पेंसिल कुर्सियाँ हैं।

Options :

1. ✘ केवल निष्कर्ष I अनुसरण करता है
2. ✔ केवल निष्कर्ष II अनुसरण करता है
3. ✘ दोनों निष्कर्ष I तथा II अनुसरण करते हैं
4. ✘ कोई भी निष्कर्ष अनुसरण नहीं करता है

Question Number : 19 Question Id : 5459279311 Question Type : MCQ Option Shuffling : Yes Display Question Number : Yes
Single Line Question Option : No Option Orientation : Vertical

Correct Marks : 1 Wrong Marks : 0.25

Below are given some statements followed by some conclusions based on those statements. Taking the given statements to be true even if they seem to be at variance from commonly known facts. Read all the conclusions and then decide which of the given conclusion logically follows the given statements.

Statements:

- I. Some red are yellow.
- II. No yellow is car.
- III. Some car are white.

Conclusions:

- I. Some white are yellow.
- II. No car is yellow.
- III. Some yellow are red.

Options :

1. ✘ Only conclusion III follows
2. ✔ Both conclusion II and III follow
3. ✘ Both conclusion I and II follow
4. ✘ Only conclusion II follows

Question Number : 19 Question Id : 5459279311 Question Type : MCQ Option Shuffling : Yes Display Question Number : Yes
Single Line Question Option : No Option Orientation : Vertical

Correct Marks : 1 Wrong Marks : 0.25

कुछ कथन और उनके बाद उन कथनों पर आधारित कुछ निष्कर्ष दिए गए हैं। दिए गए कथनों को सही माने, चाहे उनमें सामान्य ज्ञात तथ्यों से भिन्नता हो सभी निष्कर्ष पढ़ें और फिर निर्धारित करें कि दिए गए कौन से निष्कर्ष, दिए गए कथनों के आधार पर युक्तिसंगत हैं।

कथन:

- I. कुछ लाल पीले हैं।
- II. कोई पीला कार नहीं है।
- III. कुछ कार सफेद हैं।

निष्कर्ष:

- I. कुछ सफेद पीला हैं।
- II. कोई कार पीली नहीं है।
- III. कुछ पीला लाल हैं।

Options :

1. ✘ केवल निष्कर्ष III अनुसरण करता है
2. ✔ दोनों निष्कर्ष II तथा III अनुसरण करते हैं
3. ✘ दोनों निष्कर्ष I तथा II अनुसरण करते हैं
4. ✘ केवल निष्कर्ष II अनुसरण करता है

Question Number : 20 Question Id : 5459279312 Question Type : MCQ Option Shuffling : Yes Display Question Number : Yes
Single Line Question Option : No Option Orientation : Vertical

Correct Marks : 1 Wrong Marks : 0.25

In the following question, select the missing number from the given series.

4, 16, 112, 448, 7168, ?

Options :

1. ✘ 182762
2. ✘ 789712
3. ✔ 157696
4. ✘ 26628

Question Number : 20 Question Id : 5459279312 Question Type : MCQ Option Shuffling : Yes Display Question Number : Yes
Single Line Question Option : No Option Orientation : Vertical

Correct Marks : 1 Wrong Marks : 0.25

निम्नलिखित प्रश्न में दी गई श्रृंखला में से लुप्त अंक ज्ञात कीजिए।

4, 16, 112, 448, 7168, ?

Options :

1. ✘ 182762

2. ✘ 789712

3. ✔ 157696

4. ✘ 26628

Mental Ability2

Group Number :	2
Group Id :	545927462
Group Maximum Duration :	0
Group Minimum Duration :	0
Revisit allowed for view? :	No
Revisit allowed for edit? :	No
Break time:	0
Group Marks:	20
Revisit allowed for group Instructions? :	Yes
Maximum Instruction Time:	0
Minimum Instruction Time:	0

Mental Ability2

Section Id :	545927462
Section Number :	1
Section type :	Online
Mandatory or Optional:	Mandatory
Number of Questions:	20
Number of Questions to be attempted:	20
Section Marks:	20
Display Number Panel:	Yes
Group All Questions:	No

Sub-Section Number:	1
Sub-Section Id:	545927554
Question Shuffling Allowed :	Yes

Question Number : 21 Question Id : 5459279313 Question Type : MCQ Option Shuffling : Yes Display Question Number : Yes
Single Line Question Option : No Option Orientation : Vertical

Correct Marks : 1 Wrong Marks : 0.25

In the following question, select the missing number from the given series.

2, 10, 30, 68, 130, ?

Options :

1. ✖ 192
2. ✔ 222
3. ✖ 248
4. ✖ 308

Question Number : 21 Question Id : 5459279313 Question Type : MCQ Option Shuffling : Yes Display Question Number : Yes
Single Line Question Option : No Option Orientation : Vertical

Correct Marks : 1 Wrong Marks : 0.25

निम्नलिखित प्रश्न में दी गई श्रृंखला में से लुप्त अंक ज्ञात कीजिए

2, 10, 30, 68, 130, ?

Options :

1. ✖ 192
2. ✔ 222
3. ✖ 248
4. ✖ 308

Question Number : 22 Question Id : 5459279314 Question Type : MCQ Option Shuffling : Yes Display Question Number : Yes
Single Line Question Option : No Option Orientation : Vertical

Correct Marks : 1 Wrong Marks : 0.25

In the following question, four number pairs are given. The number on left side of (-) is related to the number of the right side of (-) with some Logic/Rule/Relation. Three options are similar on basis of same Logic/Rule/Relation. Select the odd one out from the given alternatives.

Options :

1. ✖ 27 - 736
2. ✖ 36 - 1302
3. ✔ 43 - 1849
4. ✖ 52 - 2706

Question Number : 22 Question Id : 5459279314 Question Type : MCQ Option Shuffling : Yes Display Question Number : Yes
Single Line Question Option : No Option Orientation : Vertical

Correct Marks : 1 Wrong Marks : 0.25

नीचे दिए गए प्रश्न में, चार संख्या युग्म दिए गए हैं (-) के बायीं ओर दी गई संख्या (-) के दायीं ओर दी गई संख्या से किसी तर्क/नियम/संबंध से संबंधित है। तीन विकल्प उसी एक तर्क/नियम/संबंध के आधार पर समान हैं। दिए गए विकल्पों में से विषम को चुनिए।

Options :

1. ✖ 27 - 736
2. ✖ 36 - 1302
3. ✔ 43 - 1849
4. ✖ 52 - 2706

Question Number : 23 Question Id : 5459279315 Question Type : MCQ Option Shuffling : Yes Display Question Number : Yes
Single Line Question Option : No Option Orientation : Vertical

Correct Marks : 1 Wrong Marks : 0.25

In the following question, four number pairs are given. The number on left side of (-) is related to the number of the right side of (-) with some Logic/Rule/Relation. Three options are similar on basis of same Logic/Rule/Relation. Select the odd one out from the given alternatives.

Options :

1. ✖ 68 - 100
2. ✖ 94 - 97
3. ✖ 73 - 58

4. ✓ 57 - 70

Question Number : 23 Question Id : 5459279315 Question Type : MCQ Option Shuffling : Yes Display Question Number : Yes
Single Line Question Option : No Option Orientation : Vertical

Correct Marks : 1 Wrong Marks : 0.25

नीचे दिए गए प्रश्न में, चार संख्या युग्म दिए गए हैं। (-) के बायीं ओर दी गई संख्या (-) के दायीं ओर दी गई संख्या से किसी तर्क/नियम/संबंध से संबंधित है। तीन विकल्प उसी एक तर्क/नियम/संबंध के आधार पर समान हैं। दिए गए विकल्पों में से विषम को चुनिए।

Options :

1. ✗ 68 - 100

2. ✗ 94 - 97

3. ✗ 73 - 58

4. ✓ 57 - 70

Question Number : 24 Question Id : 5459279316 Question Type : MCQ Option Shuffling : Yes Display Question Number : Yes
Single Line Question Option : No Option Orientation : Vertical

Correct Marks : 1 Wrong Marks : 0.25

In the following question, four number pairs are given. The number on left side of (-) is related to the number of the right side of (-) with some Logic/Rule/Relation. Three options are similar on basis of same Logic/Rule/Relation. Select the odd one out from the given alternatives.

Options :

1. ✗ 14 - 210

2. ✗ 17 - 306

3. ✗ 26 - 702

4. ✓ 23 - 529

Question Number : 24 Question Id : 5459279316 Question Type : MCQ Option Shuffling : Yes Display Question Number : Yes
Single Line Question Option : No Option Orientation : Vertical

Correct Marks : 1 Wrong Marks : 0.25

नीचे दिए गए प्रश्न में, चार संख्या युग्म दिए गए हैं। (-) के बायीं ओर दी गई संख्या (-) के दायीं ओर दी गई संख्या से किसी तर्क/नियम/संबंध से संबंधित है। तीन विकल्प उसी एक तर्क/नियम/संबंध के आधार पर समान हैं। दिए गए विकल्पों में से विषम को चुनिए।

Options :

1. ✗ 14 - 210

2. ✗ 17 - 306

3. ✗ 26 - 702

4. ✓ 23 - 529

Question Number : 25 Question Id : 5459279317 Question Type : MCQ Option Shuffling : Yes Display Question Number : Yes
Single Line Question Option : No Option Orientation : Vertical

Correct Marks : 1 Wrong Marks : 0.25

In the following question, select the number which can be placed at the sign of question mark (?) from the given alternatives.

28	36
32	40

27	46
33	52

37	24
58	?

Options :

1. ✗ 38

2. ✗ 47

3. ✗ 54

4. ✓ 45

Question Number : 25 Question Id : 5459279317 Question Type : MCQ Option Shuffling : Yes Display Question Number : Yes
Single Line Question Option : No Option Orientation : Vertical

Correct Marks : 1 Wrong Marks : 0.25

निम्नलिखित प्रश्न में दिए गए विकल्पों में से प्रश्न चिन्ह (?) के स्थान पर आने वाली संख्या को चुनिए।

28	36
32	40

27	46
33	52

37	24
58	?

Options :

- ✘ 38
- ✘ 47
- ✘ 54
- ✔ 45

Question Number : 26 Question Id : 5459279318 Question Type : MCQ Option Shuffling : Yes Display Question Number : Yes
Single Line Question Option : No Option Orientation : Vertical

Correct Marks : 1 Wrong Marks : 0.25

In the following question, select the number which can be placed at the sign of question mark (?) from the given alternatives.

4	7	9	10
6	3	8	12
12	13	16	20
196	227	401	?

Options :

- ✘ 458
- ✘ 892
- ✔ 644
- ✘ 556

Question Number : 26 Question Id : 5459279318 Question Type : MCQ Option Shuffling : Yes Display Question Number : Yes
Single Line Question Option : No Option Orientation : Vertical

Correct Marks : 1 Wrong Marks : 0.25

निम्नलिखित प्रश्न में दिए गए विकल्पों में से प्रश्न चिन्ह (?) के स्थान पर आने वाली संख्या को चुनिए।

4	7	9	10
6	3	8	12
12	13	16	20
196	227	401	?

Options :

- ✘ 458
- ✘ 892
- ✔ 644
- ✘ 556

Question Number : 27 Question Id : 5459279319 Question Type : MCQ Option Shuffling : Yes Display Question Number : Yes
Single Line Question Option : No Option Orientation : Vertical

Correct Marks : 1 Wrong Marks : 0.25

If 'P' means '+', 'Q' means '×', 'R' means '+' and 'S' means '-', then $3 R 12 P 12 Q 168 P 21 Q 3 R 5 S 20 = ?$

Options :

1. ✘ 28
2. ✘ 16
3. ✘ 20
4. ✔ 12

Question Number : 27 Question Id : 5459279319 Question Type : MCQ Option Shuffling : Yes Display Question Number : Yes
Single Line Question Option : No Option Orientation : Vertical

Correct Marks : 1 Wrong Marks : 0.25

यदि 'P' का अर्थ '+', 'Q' का अर्थ '×', 'R' का अर्थ '+' तथा 'S' का अर्थ '-' हो, तो $3 R 12 P 12 Q 168 P 21 Q 3 R 5 S 20 = ?$

Options :

1. ✘ 28
2. ✘ 16
3. ✘ 20
4. ✔ 12

Question Number : 28 Question Id : 5459279320 Question Type : MCQ Option Shuffling : Yes Display Question Number : Yes
Single Line Question Option : No Option Orientation : Vertical

Correct Marks : 1 Wrong Marks : 0.25

If 'A' means '+', 'B' means '×', 'C' means '+' and 'D' means '-', then $45 A 15 C 448 A 28 B 2 D 20 C 10 = ?$

Options :

1. ✘ 40
2. ✘ 35
3. ✔ 25
4. ✘ 15

Question Number : 28 Question Id : 5459279320 Question Type : MCQ Option Shuffling : Yes Display Question Number : Yes
Single Line Question Option : No Option Orientation : Vertical

Correct Marks : 1 Wrong Marks : 0.25

यदि 'A' का अर्थ '+', 'B' का अर्थ '×', 'C' का अर्थ '+' तथा 'D' का अर्थ '-' हो, तो $45 A 15 C 448 A 28 B 2 D 20 C 10 = ?$

Options :

1. ✘ 40
2. ✘ 35
3. ✔ 25
4. ✘ 15

Question Number : 29 Question Id : 5459279321 Question Type : MCQ Option Shuffling : Yes Display Question Number : Yes
Single Line Question Option : No Option Orientation : Vertical

Correct Marks : 1 Wrong Marks : 0.25

Select the number that is related to the third number in the same way as second number is related to the first.

$683 : 17 :: 897 : ?$

Options :

1. ✘ 42
2. ✔ 24
3. ✘ 36
4. ✘ 16

Question Number : 29 Question Id : 5459279321 Question Type : MCQ Option Shuffling : Yes Display Question Number : Yes
Single Line Question Option : No Option Orientation : Vertical

Correct Marks : 1 Wrong Marks : 0.25

निम्नलिखित प्रश्न में उस संख्या को चुने जो तीसरी संख्या से उसी प्रकार संबंधित है जिस प्रकार दूसरी संख्या पहली संख्या से संबंधित है

683 : 17 :: 897 : ?

Options :

1. ✘ 42
2. ✔ 24
3. ✘ 36
4. ✘ 16

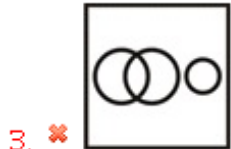

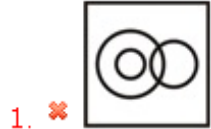
Question Number : 30 Question Id : 5459279322 Question Type : MCQ Option Shuffling : Yes Display Question Number : Yes
Single Line Question Option : No Option Orientation : Vertical

Correct Marks : 1 Wrong Marks : 0.25

Identify the diagram that best represents the relationship among the given classes.

Red, Yellow, Colour

Options :



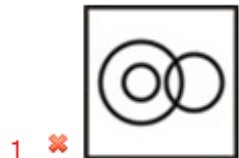
Question Number : 30 Question Id : 5459279322 Question Type : MCQ Option Shuffling : Yes Display Question Number : Yes
Single Line Question Option : No Option Orientation : Vertical

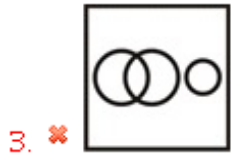

Correct Marks : 1 Wrong Marks : 0.25

वह आरेख चुनिए जो नीचे दिए गए वर्गों के बीच के संबंध का सही निरूपण करता है।

लाल, पीला, रंग

Options :

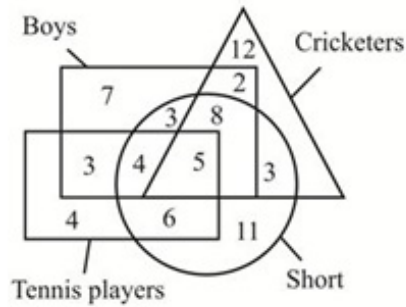




Question Number : 31 Question Id : 5459279323 Question Type : MCQ Option Shuffling : Yes Display Question Number : Yes
Single Line Question Option : No Option Orientation : Vertical

Correct Marks : 1 Wrong Marks : 0.25

In the given figure, how many short boys are cricketers but not tennis players?



Options :

1. ✘ 11

2. ✔ 8

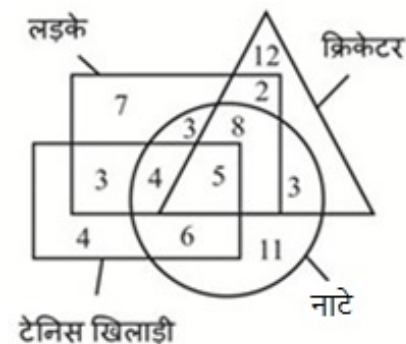
3. ✘ 15

4. ✘ 18

Question Number : 31 Question Id : 5459279323 Question Type : MCQ Option Shuffling : Yes Display Question Number : Yes
Single Line Question Option : No Option Orientation : Vertical

Correct Marks : 1 Wrong Marks : 0.25

दी गई आकृति में कितने नाटे लड़के क्रिकेटर हैं, लेकिन टेनिस के खिलाड़ी नहीं हैं?



Options :

1. ✘ 11

2. ✔ 8

3. ✘ 15

4. ✘ 18

Question Number : 32 Question Id : 5459279324 Question Type : MCQ Option Shuffling : Yes Display Question Number : Yes
Single Line Question Option : No Option Orientation : Vertical

Correct Marks : 1 Wrong Marks : 0.25

A boy walks 4 km towards south. He turns left and walks 6 km. Then he turns right and walks 6 km. In which direction is he facing now?

Options :

1. ✘ East

2. ✘ West

3. ✘ North

4. ✔ South

Question Number : 32 Question Id : 5459279324 Question Type : MCQ Option Shuffling : Yes Display Question Number : Yes
Single Line Question Option : No Option Orientation : Vertical

Correct Marks : 1 Wrong Marks : 0.25

एक लड़का दक्षिण की ओर 4 कि.मी. चलता है वह बाएं मुड़ता है और 6 कि.मी. चलता है फिर वह दाएं मुड़ता है और 6 कि.मी. चलता है अब उसका मुख किस दिशा में है?

Options :

1. ✘ पूर्व

2. ✘ पश्चिम

3. ✘ उत्तर

4. ✔ दक्षिण

Question Number : 33 Question Id : 5459279325 Question Type : MCQ Option Shuffling : Yes Display Question Number : Yes
Single Line Question Option : No Option Orientation : Vertical

Correct Marks : 1 Wrong Marks : 0.25

A person walks 5 km towards west. Then he walks 12 km towards south. How far and in which direction is he from the starting point?

Options :

1. ✘ 13 km, North-east

2. ✘ 12 km, South-west

3. ✔ 13 km, South-west

4. ✘ 11 km, North-east

Question Number : 33 Question Id : 5459279325 Question Type : MCQ Option Shuffling : Yes Display Question Number : Yes
Single Line Question Option : No Option Orientation : Vertical

Correct Marks : 1 Wrong Marks : 0.25

एक व्यक्ति पश्चिम की ओर 5 कि.मी. चलता है फिर वह दक्षिण की ओर 12 कि.मी. चलता है वह प्रारंभिक बिंदु से कितनी दूर तथा किस दिशा में है?

Options :

1. ✘ 13 कि.मी., उत्तर-पूर्व

2. ✘ 12 कि.मी., दक्षिण-पश्चिम

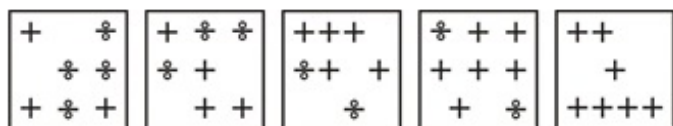
3. ✔ 13 कि.मी., दक्षिण-पश्चिम

4. ✘ 11 कि.मी., उत्तर-पूर्व

Question Number : 34 Question Id : 5459279326 Question Type : MCQ Option Shuffling : Yes Display Question Number : Yes
Single Line Question Option : No Option Orientation : Vertical

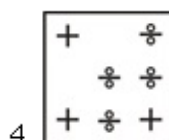
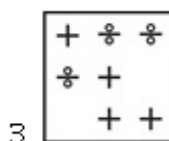
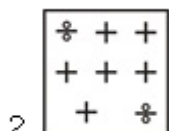
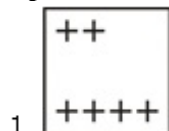
Correct Marks : 1 Wrong Marks : 0.25

In the following question, select the wrong figure from the given series.



Note: For this question, discrepancy is found in question/answer. So, this question is ignored for all candidates.

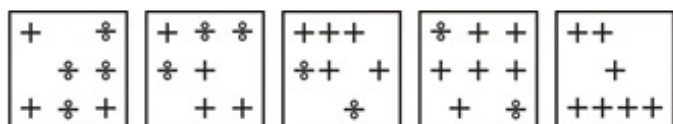
Options :



Question Number : 34 Question Id : 5459279326 Question Type : MCQ Option Shuffling : Yes Display Question Number : Yes Single Line Question Option : No Option Orientation : Vertical

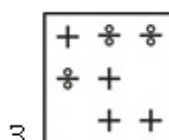
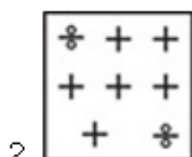
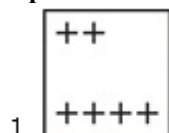
Correct Marks : 1 Wrong Marks : 0.25

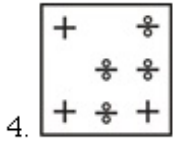
निम्नलिखित प्रश्न में, दी गयी श्रृंखला में से गलत आकृति को चुनिए



Note: For this question, discrepancy is found in question/answer. So, this question is ignored for all candidates.

Options :





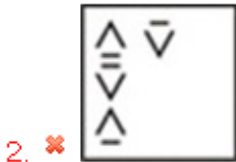
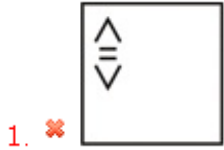
Question Number : 35 Question Id : 5459279327 Question Type : MCQ Option Shuffling : Yes Display Question Number : Yes
Single Line Question Option : No Option Orientation : Vertical

Correct Marks : 1 Wrong Marks : 0.25

In the following question, select the wrong figure from the given series.



Options :



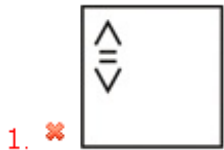
Question Number : 35 Question Id : 5459279327 Question Type : MCQ Option Shuffling : Yes Display Question Number : Yes
Single Line Question Option : No Option Orientation : Vertical

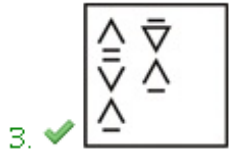
Correct Marks : 1 Wrong Marks : 0.25

निम्नलिखित प्रश्न में, दी गयी श्रृंखला में से गलत आकृति को चुनिए



Options :

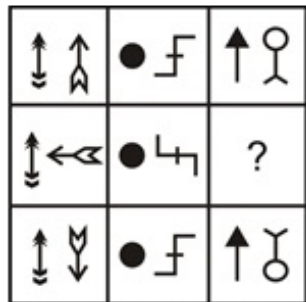




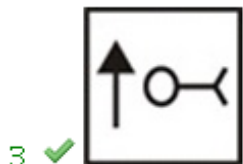
Question Number : 36 Question Id : 5459279328 Question Type : MCQ Option Shuffling : Yes Display Question Number : Yes
 Single Line Question Option : No Option Orientation : Vertical

Correct Marks : 1 Wrong Marks : 0.25

Which answer figure will complete the pattern in the question figure?



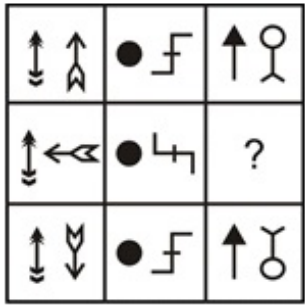
Options :



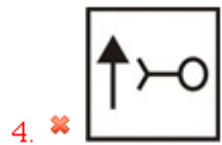
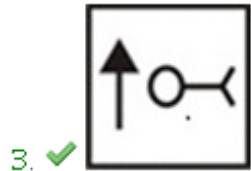
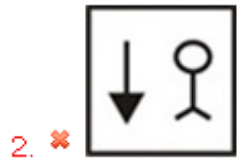
Question Number : 36 Question Id : 5459279328 Question Type : MCQ Option Shuffling : Yes Display Question Number : Yes
 Single Line Question Option : No Option Orientation : Vertical

Correct Marks : 1 Wrong Marks : 0.25

कौन सी उत्तर आकृति प्रश्न आकृति के प्रतिरूप को पूरा करेगी?



Options :



Question Number : 37 Question Id : 5459279329 Question Type : MCQ Option Shuffling : Yes Display Question Number : Yes
Single Line Question Option : No Option Orientation : Vertical

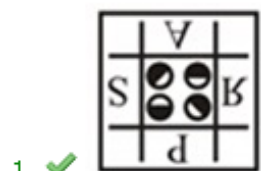
Correct Marks : 1 Wrong Marks : 0.25

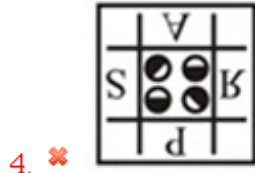
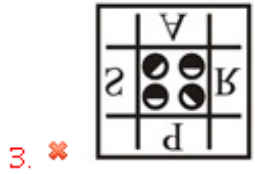
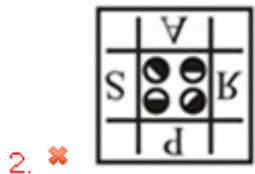
If a mirror is placed on the line AB, then which of the answer figures is the right image of the given figure?



A B

Options :





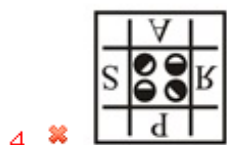
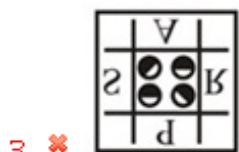
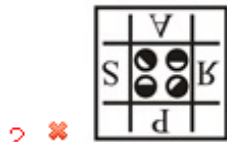
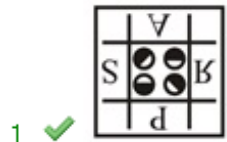
Question Number : 37 Question Id : 5459279329 Question Type : MCQ Option Shuffling : Yes Display Question Number : Yes Single Line Question Option : No Option Orientation : Vertical

Correct Marks : 1 Wrong Marks : 0.25

यदि एक दर्पण को AB रेखा पर रखा जाए, तो दी गई उतर आकृतियों में से कौन सी आकृति प्रश्न आकृति की सही प्रतिबिंब होगी?



Options :



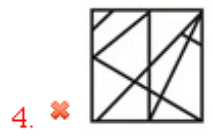
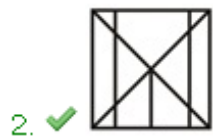
Question Number : 38 Question Id : 5459279330 Question Type : MCQ Option Shuffling : Yes Display Question Number : Yes
Single Line Question Option : No Option Orientation : Vertical

Correct Marks : 1 Wrong Marks : 0.25

From the given answer figures, select the one in which the question figure is hidden/embedded.



Options :



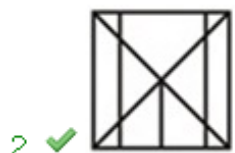
Question Number : 38 Question Id : 5459279330 Question Type : MCQ Option Shuffling : Yes Display Question Number : Yes
Single Line Question Option : No Option Orientation : Vertical

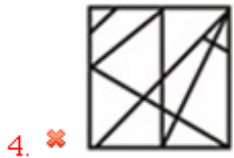
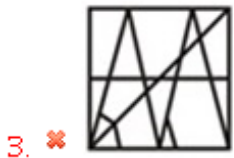
Correct Marks : 1 Wrong Marks : 0.25

दी गई उत्तर आकृतियों में से उस उत्तर आकृति को चुनिए जिस में प्रश्न आकृति निहित है।



Options :





Question Number : 39 Question Id : 5459279331 Question Type : MCQ Option Shuffling : Yes Display Question Number : Yes
Single Line Question Option : No Option Orientation : Vertical

Correct Marks : 1 Wrong Marks : 0.25

Three positions of a dice are given below. What will not come on the adjacent faces of a face containing 'R'?



Options :

1. ✘ G, N
2. ✓ 6, T
3. ✘ G, 7
4. ✘ T, N

Question Number : 39 Question Id : 5459279331 Question Type : MCQ Option Shuffling : Yes Display Question Number : Yes
Single Line Question Option : No Option Orientation : Vertical

Correct Marks : 1 Wrong Marks : 0.25

नीचे एक पासे की तीन अवस्थाएँ दी गयी है। 'R' युक्त फलक की संलग्न फलकों पर क्या नहीं आएगा?



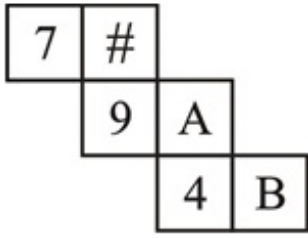
Options :

1. ✘ G, N
2. ✓ 6, T
3. ✘ G, 7
4. ✘ T, N

Question Number : 40 Question Id : 5459279332 Question Type : MCQ Option Shuffling : Yes Display Question Number : Yes
Single Line Question Option : No Option Orientation : Vertical

Correct Marks : 1 Wrong Marks : 0.25

By folding the given paper, which of the following cubes can be made?



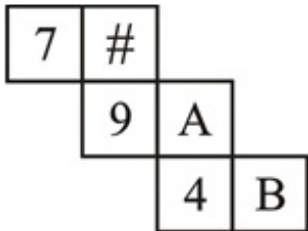
Options :



Question Number : 40 Question Id : 5459279332 Question Type : MCQ Option Shuffling : Yes Display Question Number : Yes
Single Line Question Option : No Option Orientation : Vertical

Correct Marks : 1 Wrong Marks : 0.25

दिए गए कागज को मोड़ने पर, निम्नलिखित में से कौन सा घन बनाया जा सकता है?



Options :





2. ✘



3. ✘



4. ✔

General Awareness 1

Group Number :	3
Group Id :	545927463
Group Maximum Duration :	0
Group Minimum Duration :	0
Revisit allowed for view? :	No
Revisit allowed for edit? :	No
Break time:	0
Group Marks:	20
Revisit allowed for group Instructions? :	Yes
Maximum Instruction Time:	0
Minimum Instruction Time:	0

General Awareness 1

Section Id :	545927463
Section Number :	1
Section type :	Online
Mandatory or Optional:	Mandatory
Number of Questions:	20
Number of Questions to be attempted:	20
Section Marks:	20
Display Number Panel:	Yes
Group All Questions:	No

Sub-Section Number:	1
Sub-Section Id:	545927555
Question Shuffling Allowed :	Yes

Question Number : 41 Question Id : 5459279333 Question Type : MCQ Option Shuffling : Yes Display Question Number : Yes
Single Line Question Option : No Option Orientation : Vertical

Correct Marks : 1 Wrong Marks : 0.25

Sekrenyi, Moatsu, Tokhu Emong and Tuluni festivals are celebrated in _____ state.

Options :

1. ✓ Nagaland
2. ✗ Assam
3. ✗ West Bengal
4. ✗ Odisha

Question Number : 41 Question Id : 5459279333 Question Type : MCQ Option Shuffling : Yes Display Question Number : Yes
Single Line Question Option : No Option Orientation : Vertical

Correct Marks : 1 Wrong Marks : 0.25

सेकेरनी, मोआत्सु, तोखू इमोंग और तुलुनी त्योहार _____ राज्य में मनाए जाते हैं।

Options :

1. ✓ नगालैंड
2. ✗ असम
3. ✗ पश्चिम बंगाल
4. ✗ ओडिशा

Question Number : 42 Question Id : 5459279334 Question Type : MCQ Option Shuffling : Yes Display Question Number : Yes
Single Line Question Option : No Option Orientation : Vertical

Correct Marks : 1 Wrong Marks : 0.25

Kathi darwaza is located in _____.

Options :

1. ✓ Srinagar
2. ✗ Bengaluru
3. ✗ Varanasi
4. ✗ Jaisalmer

Question Number : 42 Question Id : 5459279334 Question Type : MCQ Option Shuffling : Yes Display Question Number : Yes
Single Line Question Option : No Option Orientation : Vertical

Correct Marks : 1 Wrong Marks : 0.25

काठी दरवाजा, _____ में स्थित है।

Options :

1. ✓ श्रीनगर
2. ✗ बेंगलुरु
3. ✗ वाराणसी
4. ✗ जैसलमेर

Question Number : 43 Question Id : 5459279335 Question Type : MCQ Option Shuffling : Yes Display Question Number : Yes
Single Line Question Option : No Option Orientation : Vertical

Correct Marks : 1 Wrong Marks : 0.25

The dancers of Bhutia folk dance "Tashi Sabdo" dance to the melodious tunes duly supported by which musical instrument?

- I. Piano
- II. Drum
- III. Flute
- IV. Tabla

Options :

1. ✘ I
2. ✘ III
3. ✔ Both II & III
4. ✘ Both I & IV

Question Number : 43 Question Id : 5459279335 Question Type : MCQ Option Shuffling : Yes Display Question Number : Yes
Single Line Question Option : No Option Orientation : Vertical

Correct Marks : 1 Wrong Marks : 0.25

भूटिया लोक नृत्य "ताशी सबदो" के नर्तक किस वाद्य यंत्र की सुरीली धुनों पर नृत्य करते हैं?

- I. पियानो
- II. ड्रम
- III. बांसुरी
- IV. तबला

Options :

1. ✘ I
2. ✘ III
3. ✔ II & III दोनों
4. ✘ I & IV दोनों

Question Number : 44 Question Id : 5459279336 Question Type : MCQ Option Shuffling : Yes Display Question Number : Yes
Single Line Question Option : No Option Orientation : Vertical

Correct Marks : 1 Wrong Marks : 0.25

In which state the Sanchi Stupa is located?

Options :

1. ✔ Madhya Pradesh
2. ✘ Uttar Pradesh
3. ✘ Tamil Nadu
4. ✘ Haryana

Question Number : 44 Question Id : 5459279336 Question Type : MCQ Option Shuffling : Yes Display Question Number : Yes
Single Line Question Option : No Option Orientation : Vertical

Correct Marks : 1 Wrong Marks : 0.25

सांची स्तूप किस राज्य में स्थित है?

Options :

1. ✔ मध्य प्रदेश
2. ✘ उत्तर प्रदेश
3. ✘ तमिलनाडु
4. ✘ हरियाणा

Question Number : 45 Question Id : 5459279337 Question Type : MCQ Option Shuffling : Yes Display Question Number : Yes
Single Line Question Option : No Option Orientation : Vertical

Correct Marks : 1 Wrong Marks : 0.25

_____ gives guaranteed price and assured market to the farmers and protect them from the price fluctuations and market imperfections.

Options :

1. ✘ Minimum Supply Price
2. ✔ Minimum Support Price
3. ✘ Maximum Support Price

4. ✖ Maximum Supply Price

Question Number : 45 Question Id : 5459279337 Question Type : MCQ Option Shuffling : Yes Display Question Number : Yes
Single Line Question Option : No Option Orientation : Vertical

Correct Marks : 1 Wrong Marks : 0.25

_____ किसानों को गारंटीकृत मूल्य देता है, उनके लिए बाज़ार सुनिश्चित करता है, और उन्हें मूल्य में उतार-चढ़ाव व खराब बाज़ार से बचाता है।

Options :

1. ✖ न्यूनतम आपूर्ति मूल्य
2. ✔ न्यूनतम समर्थन मूल्य
3. ✖ अधिकतम समर्थन मूल्य
4. ✖ अधिकतम आपूर्ति मूल्य

Question Number : 46 Question Id : 5459279338 Question Type : MCQ Option Shuffling : Yes Display Question Number : Yes
Single Line Question Option : No Option Orientation : Vertical

Correct Marks : 1 Wrong Marks : 0.25

Which of the following is a function of Reserve Bank of India (RBI)?

- I. Formulating Monetary Policy
- II. Issue of currency
- III. Banker to banks

Options :

1. ✖ I and II
2. ✖ II and III
3. ✖ III and I
4. ✔ I, II and III

Question Number : 46 Question Id : 5459279338 Question Type : MCQ Option Shuffling : Yes Display Question Number : Yes
Single Line Question Option : No Option Orientation : Vertical

Correct Marks : 1 Wrong Marks : 0.25

निम्नलिखित में से क्या भारतीय रिज़र्व बैंक (आर.बी.आई.) का कार्य है?

- I. मौद्रिक नीति बनाना
- II. मुद्रा जारी करना
- III. बैंकों का बैंकर

Options :

1. ✖ I तथा II
2. ✖ II तथा III
3. ✖ III तथा I
4. ✔ I, II तथा III

Question Number : 47 Question Id : 5459279339 Question Type : MCQ Option Shuffling : Yes Display Question Number : Yes
Single Line Question Option : No Option Orientation : Vertical

Correct Marks : 1 Wrong Marks : 0.25

The ratio of nominal to real gross domestic product is a well known index of prices, which is called _____.

Options :

1. ✖ Gross domestic product Calculator
2. ✖ Constant utility index
3. ✔ Gross domestic product Deflator
4. ✖ Consumer Price Deflator

Question Number : 47 Question Id : 5459279339 Question Type : MCQ Option Shuffling : Yes Display Question Number : Yes
Single Line Question Option : No Option Orientation : Vertical

Correct Marks : 1 Wrong Marks : 0.25

वास्तविक सकल घरेलू उत्पाद का मौद्रिक सकल घरेलू उत्पाद से अनुपात कीमतों का एक प्रसिद्ध सूचकांक है, जिसे _____ कहा जाता है।

Options :

1. ✘ सकल घरेलू उत्पाद परिकलित्र
2. ✘ स्थिर उपयोगिता सूचकांक
3. ✔ सकल घरेलू उत्पाद अपस्फीतिक
4. ✘ उपभोक्ता कीमत अपस्फीतिक

Question Number : 48 Question Id : 5459279340 Question Type : MCQ Option Shuffling : Yes Display Question Number : Yes
Single Line Question Option : No Option Orientation : Vertical

Correct Marks : 1 Wrong Marks : 0.25

Curd, Orange juice, Grapes, etc. taste sour because they are _____.

Options :

1. ✔ acidic
2. ✘ basic
3. ✘ neutral
4. ✘ salty

Question Number : 48 Question Id : 5459279340 Question Type : MCQ Option Shuffling : Yes Display Question Number : Yes
Single Line Question Option : No Option Orientation : Vertical

Correct Marks : 1 Wrong Marks : 0.25

दही, संतरे का रस, अंगूर, आदि का स्वाद खट्टा होता है क्योंकि वे _____ होते हैं।

Options :

1. ✔ अम्लीय
2. ✘ क्षारक
3. ✘ तटस्थ
4. ✘ नमकिन

Question Number : 49 Question Id : 5459279341 Question Type : MCQ Option Shuffling : Yes Display Question Number : Yes
Single Line Question Option : No Option Orientation : Vertical

Correct Marks : 1 Wrong Marks : 0.25

Acid rain contains which of the following acids?

Options :

1. ✔ Carbonic acid
2. ✘ Formic acid
3. ✘ Phosphoric acid
4. ✘ Sulfonic acid

Question Number : 49 Question Id : 5459279341 Question Type : MCQ Option Shuffling : Yes Display Question Number : Yes
Single Line Question Option : No Option Orientation : Vertical

Correct Marks : 1 Wrong Marks : 0.25

अम्लीय वर्षा में निम्नलिखित में से कौन सा अम्ल होता है?

Options :

1. ✔ कार्बोनिक अम्ल
2. ✘ फॉर्मिक अम्ल
3. ✘ फॉस्फोरिक अम्ल
4. ✘ सल्फोनिक अम्ल

Question Number : 50 Question Id : 5459279342 Question Type : MCQ Option Shuffling : Yes Display Question Number : Yes
Single Line Question Option : No Option Orientation : Vertical

Correct Marks : 1 Wrong Marks : 0.25

Complete the following: Sulphur dioxide + water \rightarrow = _____.

Options :

- Sulphurous acid
- Marshall's acid
- Sulphuric acid
- Peroxodisulphuric acid

Question Number : 50 Question Id : 5459279342 Question Type : MCQ Option Shuffling : Yes Display Question Number : Yes
Single Line Question Option : No Option Orientation : Vertical

Correct Marks : 1 Wrong Marks : 0.25

निम्नलिखित को पूरा करें: सल्फर डाइऑक्साइड + पानी \rightarrow = _____।

Options :

- सल्फ्यूरस अम्ल
- मार्शल का अम्ल
- सल्फ्यूरिक अम्ल
- पराकसोडाइसल्फ्यूरिक अम्ल

Question Number : 51 Question Id : 5459279343 Question Type : MCQ Option Shuffling : Yes Display Question Number : Yes
Single Line Question Option : No Option Orientation : Vertical

Correct Marks : 1 Wrong Marks : 0.25

Which of the following is NOT an example of circular motion?

Options :

- A bus moving on a road
- The wheels of a bus moving on a road
- The blades of a ceiling fan
- Motion of a tied stone being whirled by hand

Question Number : 51 Question Id : 5459279343 Question Type : MCQ Option Shuffling : Yes Display Question Number : Yes
Single Line Question Option : No Option Orientation : Vertical

Correct Marks : 1 Wrong Marks : 0.25

निम्नलिखित में से क्या वृत्तीय गति का उदाहरण नहीं है?

Options :

- सड़क पर चलती बस
- सड़क पर चलती बस के पहिए
- छत के पंखे के ब्लेड
- हाथ से घुमाए जा रहे बंधे हुए पत्थर की गति

Question Number : 52 Question Id : 5459279344 Question Type : MCQ Option Shuffling : Yes Display Question Number : Yes
Single Line Question Option : No Option Orientation : Vertical

Correct Marks : 1 Wrong Marks : 0.25

The electrical devices which are used to protect domestic electrical circuit from excess electric current is _____.

Options :

- fuse
- miniature circuit breakers
- electric bulb

4. ✓ both fuse and miniature circuit breakers

Question Number : 52 Question Id : 5459279344 Question Type : MCQ Option Shuffling : Yes Display Question Number : Yes
Single Line Question Option : No Option Orientation : Vertical

Correct Marks : 1 Wrong Marks : 0.25

अतिरिक्त विद्युत धारा से घरेलू विद्युत-परिपथ की रक्षा करने के लिए जिन विद्युत उपकरणों का उपयोग किया जाता है, वे _____ हैं।

Options :

1. ✗ फ्यूज
2. ✗ लघु परिपथ विच्छेदक
3. ✗ विद्युत बल्ब
4. ✓ फ्यूज और लघु परिपथ विच्छेदक दोनों

Question Number : 53 Question Id : 5459279345 Question Type : MCQ Option Shuffling : Yes Display Question Number : Yes
Single Line Question Option : No Option Orientation : Vertical

Correct Marks : 1 Wrong Marks : 0.25

Pyruvate is a _____ compound.

Options :

1. ✗ 4-Carbon
2. ✗ 5-Carbon
3. ✓ 3-Carbon
4. ✗ 2-Carbon

Question Number : 53 Question Id : 5459279345 Question Type : MCQ Option Shuffling : Yes Display Question Number : Yes
Single Line Question Option : No Option Orientation : Vertical

Correct Marks : 1 Wrong Marks : 0.25

पायरूवेट एक _____ वाला यौगिक है।

Options :

1. ✗ 4-कार्बन
2. ✗ 5-कार्बन
3. ✓ 3-कार्बन
4. ✗ 2-कार्बन

Question Number : 54 Question Id : 5459279346 Question Type : MCQ Option Shuffling : Yes Display Question Number : Yes
Single Line Question Option : No Option Orientation : Vertical

Correct Marks : 1 Wrong Marks : 0.25

Metamorphosis in Frog is controlled by which hormone?

Options :

1. ✗ Adrenalin
2. ✓ Thyroxine
3. ✗ Insulin
4. ✗ Testosterone

Question Number : 54 Question Id : 5459279346 Question Type : MCQ Option Shuffling : Yes Display Question Number : Yes
Single Line Question Option : No Option Orientation : Vertical

Correct Marks : 1 Wrong Marks : 0.25

मेंढक में मेटामॉर्फोसिस (Metamorphosis) किस हार्मोन द्वारा नियंत्रित किया जाता है?

Options :

1. ✗ एड्रेनालाईन
2. ✓ थाइरोक्सिन

3. ✘ इंसुलिन
4. ✘ टेस्टोस्टेरोन

Question Number : 55 Question Id : 5459279347 Question Type : MCQ Option Shuffling : Yes Display Question Number : Yes
Single Line Question Option : No Option Orientation : Vertical

Correct Marks : 1 Wrong Marks : 0.25

Human beings have a _____ heart.

Options :

1. ✘ Single Chambered
2. ✘ 2-Chambered
3. ✘ 3-Chambered
4. ✔ 4-Chambered

Question Number : 55 Question Id : 5459279347 Question Type : MCQ Option Shuffling : Yes Display Question Number : Yes
Single Line Question Option : No Option Orientation : Vertical

Correct Marks : 1 Wrong Marks : 0.25

मानव में _____ वाला हृदय होता है।

Options :

1. ✘ एक कोष्ठ
2. ✘ 2-कोष्ठ
3. ✘ 3-कोष्ठ
4. ✔ 4-कोष्ठ

Question Number : 56 Question Id : 5459279348 Question Type : MCQ Option Shuffling : Yes Display Question Number : Yes
Single Line Question Option : No Option Orientation : Vertical

Correct Marks : 1 Wrong Marks : 0.25

Which of the following is NOT in India?

Options :

1. ✘ Mizo Hills
2. ✔ Rocky Mountains
3. ✘ Anamudi Mountains
4. ✘ Khasi Hills

Question Number : 56 Question Id : 5459279348 Question Type : MCQ Option Shuffling : Yes Display Question Number : Yes
Single Line Question Option : No Option Orientation : Vertical

Correct Marks : 1 Wrong Marks : 0.25

निम्नलिखित में से कया भारत में नहीं है?

Options :

1. ✘ मिज़ो पर्वतमाला
2. ✔ रॉकी पर्वत शृंखला
3. ✘ अनामुड़ी पर्वतमाला
4. ✘ खासी पर्वतमाला

Question Number : 57 Question Id : 5459279349 Question Type : MCQ Option Shuffling : Yes Display Question Number : Yes
Single Line Question Option : No Option Orientation : Vertical

Correct Marks : 1 Wrong Marks : 0.25

Black soil is found in which of the following states?

- I. Maharashtra
- II. Madhya Pradesh
- III. Andhra Pradesh

Options :

- 1. ✘ I and II
- 2. ✘ II and III
- 3. ✘ III and I
- 4. ✔ I, II and III

Question Number : 57 Question Id : 5459279349 Question Type : MCQ Option Shuffling : Yes Display Question Number : Yes
Single Line Question Option : No Option Orientation : Vertical

Correct Marks : 1 Wrong Marks : 0.25

काली मिट्टी निम्नलिखित में से किस राज्य में पाई जाती है?

- I. महाराष्ट्र
- II. मध्य प्रदेश
- III. आंध्र प्रदेश

Options :

- 1. ✘ I तथा II
- 2. ✘ II तथा III
- 3. ✘ III तथा I
- 4. ✔ I, II तथा III

Question Number : 58 Question Id : 5459279350 Question Type : MCQ Option Shuffling : Yes Display Question Number : Yes
Single Line Question Option : No Option Orientation : Vertical

Correct Marks : 1 Wrong Marks : 0.25

_____ is also known as 'Golden Fibre'.

Options :

- 1. ✘ Cotton
- 2. ✘ Silk
- 3. ✔ Jute
- 4. ✘ Rubber

Question Number : 58 Question Id : 5459279350 Question Type : MCQ Option Shuffling : Yes Display Question Number : Yes
Single Line Question Option : No Option Orientation : Vertical

Correct Marks : 1 Wrong Marks : 0.25

_____ को 'सुनहरे रेशे' के रूप में भी जाना जाता है।

Options :

- 1. ✘ कपास
- 2. ✘ रेशम
- 3. ✔ जूट
- 4. ✘ रबड़

Question Number : 59 Question Id : 5459279351 Question Type : MCQ Option Shuffling : Yes Display Question Number : Yes
Single Line Question Option : No Option Orientation : Vertical

Correct Marks : 1 Wrong Marks : 0.25

'Jhumming' is another name for which of the following?

Options :

1. ✓ Shifting Cultivation
2. ✗ Contract Farming
3. ✗ Commercial Farming
4. ✗ Commercial Grain Farming

Question Number : 59 Question Id : 5459279351 Question Type : MCQ Option Shuffling : Yes Display Question Number : Yes
Single Line Question Option : No Option Orientation : Vertical

Correct Marks : 1 Wrong Marks : 0.25

'झुमिन्ग' निम्नलिखित में से किसका दूसरा नाम है?

Options :

1. ✓ स्थानांतरण कृषि
2. ✗ संविदागत कृषि
3. ✗ वाणिज्यिक कृषि
4. ✗ वाणिज्यिक अनाज कृषि

Question Number : 60 Question Id : 5459279352 Question Type : MCQ Option Shuffling : Yes Display Question Number : Yes
Single Line Question Option : No Option Orientation : Vertical

Correct Marks : 1 Wrong Marks : 0.25

'Kayals' is found in which of the following states?

Options :

1. ✗ Rajasthan
2. ✗ Punjab
3. ✓ Kerala
4. ✗ Himachal Pradesh

Question Number : 60 Question Id : 5459279352 Question Type : MCQ Option Shuffling : Yes Display Question Number : Yes
Single Line Question Option : No Option Orientation : Vertical

Correct Marks : 1 Wrong Marks : 0.25

'कयाल' निम्नलिखित में से किस राज्य में पाया जाता है?

Options :

1. ✗ राजस्थान
2. ✗ पंजाब
3. ✓ केरल
4. ✗ हिमाचल प्रदेश

General Awareness2

Group Number :	4
Group Id :	545927464
Group Maximum Duration :	0
Group Minimum Duration :	0
Revisit allowed for view? :	No
Revisit allowed for edit? :	No
Break time:	0
Group Marks:	20
Revisit allowed for group Instructions? :	Yes
Maximum Instruction Time:	0
Minimum Instruction Time:	0

General Awareness2

Section Id :	545927464
Section Number :	1
Section type :	Online
Mandatory or Optional:	Mandatory
Number of Questions:	20
Number of Questions to be attempted:	20
Section Marks:	20
Display Number Panel:	Yes
Group All Questions:	No

Sub-Section Number:	1
Sub-Section Id:	545927556
Question Shuffling Allowed :	Yes

Question Number : 61 Question Id : 5459279353 Question Type : MCQ Option Shuffling : Yes Display Question Number : Yes
Single Line Question Option : No Option Orientation : Vertical
Correct Marks : 1 Wrong Marks : 0.25

Meanders are associated with which of the following?

Options :

- ✓ Rivers
- ✗ Plateaus
- ✗ Soils
- ✗ Forests

Question Number : 61 Question Id : 5459279353 Question Type : MCQ Option Shuffling : Yes Display Question Number : Yes
Single Line Question Option : No Option Orientation : Vertical
Correct Marks : 1 Wrong Marks : 0.25

घुमाव / मोड़ (मीएन्डर्ज़) निम्नलिखित में से किससे संबंधित हैं?

Options :

- ✓ नदियों
- ✗ पठार
- ✗ मिट्टियों
- ✗ वनों

Question Number : 62 Question Id : 5459279354 Question Type : MCQ Option Shuffling : Yes Display Question Number : Yes
Single Line Question Option : No Option Orientation : Vertical
Correct Marks : 1 Wrong Marks : 0.25

Who among the following was a disciple of Ramakrishna Paramhans?

Options :

- ✓ Swami Vivekananda
- ✗ Ishwar Chandra Vidyasagar
- ✗ Raja Ram Mohan Roy
- ✗ Swami Dayanand Saraswati

Question Number : 62 Question Id : 5459279354 Question Type : MCQ Option Shuffling : Yes Display Question Number : Yes
Single Line Question Option : No Option Orientation : Vertical

Correct Marks : 1 Wrong Marks : 0.25

निम्नलिखित में से कौन रामकृष्ण परमहंस के शिष्य थे?

Options :

1. ✓ स्वामी विवेकानंद
2. ✗ ईश्वर चंद्र विद्यासागर
3. ✗ राजा राम मोहन राय
4. ✗ स्वामी दयानन्द सरस्वती

Question Number : 63 Question Id : 5459279355 Question Type : MCQ Option Shuffling : Yes Display Question Number : Yes
Single Line Question Option : No Option Orientation : Vertical

Correct Marks : 1 Wrong Marks : 0.25

बाणभट्ट ने निम्नलिखित में से क्या लिखा है?

Options :

1. ✗ धर्मशास्त्र
2. ✗ बाबरनामा
3. ✗ अकबरनामा
4. ✓ हर्षचरित

Question Number : 63 Question Id : 5459279355 Question Type : MCQ Option Shuffling : Yes Display Question Number : Yes
Single Line Question Option : No Option Orientation : Vertical

Correct Marks : 1 Wrong Marks : 0.25

Banabhatta wrote which of the following?

Options :

1. ✗ Dharmashastra
2. ✗ Baburnama
3. ✗ Akbarnama
4. ✓ Harshacharita

Question Number : 64 Question Id : 5459279356 Question Type : MCQ Option Shuffling : Yes Display Question Number : Yes
Single Line Question Option : No Option Orientation : Vertical

Correct Marks : 1 Wrong Marks : 0.25

'Shikhara' is associated with the architecture of which of the following?

Options :

1. ✗ Mosque
2. ✓ Temple
3. ✗ Stupas
4. ✗ Tombs

Question Number : 64 Question Id : 5459279356 Question Type : MCQ Option Shuffling : Yes Display Question Number : Yes
Single Line Question Option : No Option Orientation : Vertical

Correct Marks : 1 Wrong Marks : 0.25

'शिखर' निम्नलिखित में से किस वास्तुकला से संबंधित है?

Options :

1. ✗ मस्जिद
2. ✓ मंदिर
3. ✗ स्तूप
4. ✗ मकबरा

Question Number : 65 Question Id : 5459279357 Question Type : MCQ Option Shuffling : Yes Display Question Number : Yes
Single Line Question Option : No Option Orientation : Vertical

Correct Marks : 1 Wrong Marks : 0.25

Which period has been described as the Golden Age of Indian History?

Options :

1. ✘ Pratihara
2. ✘ Rashtrakutas
3. ✘ Chola
4. ✔ Gupta

Question Number : 65 Question Id : 5459279357 Question Type : MCQ Option Shuffling : Yes Display Question Number : Yes
Single Line Question Option : No Option Orientation : Vertical

Correct Marks : 1 Wrong Marks : 0.25

किस काल को भारतीय इतिहास का स्वर्ण युग कहा गया है?

Options :

1. ✘ प्रतिहार
2. ✘ राष्ट्रकूट
3. ✘ चोल
4. ✔ गुप्त

Question Number : 66 Question Id : 5459279358 Question Type : MCQ Option Shuffling : Yes Display Question Number : Yes
Single Line Question Option : No Option Orientation : Vertical

Correct Marks : 1 Wrong Marks : 0.25

Which movement was started by Khan Abdul Ghaffar Khan?

Options :

1. ✔ Red Shirt
2. ✘ Black Shirt
3. ✘ Yellow Shirt
4. ✘ Green Shirt

Question Number : 66 Question Id : 5459279358 Question Type : MCQ Option Shuffling : Yes Display Question Number : Yes
Single Line Question Option : No Option Orientation : Vertical

Correct Marks : 1 Wrong Marks : 0.25

खान अब्दुल गफ्फार खान ने किस आंदोलन की शुरुआत की थी?

Options :

1. ✔ लाल कुर्ती
2. ✘ काली कुर्ती
3. ✘ पीली कुर्ती
4. ✘ हरी कुर्ती

Question Number : 67 Question Id : 5459279359 Question Type : MCQ Option Shuffling : Yes Display Question Number : Yes
Single Line Question Option : No Option Orientation : Vertical

Correct Marks : 1 Wrong Marks : 0.25

Which of the following is a Bhakti saint?

- I. Kabir
- II. Nanak
- III. Tulsidas

Options :

- ✘ I and II
- ✘ II and III
- ✘ III and I
- ✔ I, II and III

Question Number : 67 Question Id : 5459279359 Question Type : MCQ Option Shuffling : Yes Display Question Number : Yes
Single Line Question Option : No Option Orientation : Vertical

Correct Marks : 1 Wrong Marks : 0.25

निम्नलिखित में से कौन एक भक्ति संत हैं?

- I. कबीर
- II. नानक
- III. तुलसीदास

Options :

- ✘ I तथा II
- ✘ II तथा III
- ✘ III तथा I
- ✔ I, II तथा III

Question Number : 68 Question Id : 5459279360 Question Type : MCQ Option Shuffling : Yes Display Question Number : Yes
Single Line Question Option : No Option Orientation : Vertical

Correct Marks : 1 Wrong Marks : 0.25

Who won Shanti Swarup Bhatnagar Prize 2018 for Mathematical Sciences?

Options :

- ✘ Dr. Rahul Banerjee
- ✔ Dr. Amit Kumar
- ✘ Dr. Ganesh Nagaraju
- ✘ Dr. Amit Agrawal

Question Number : 68 Question Id : 5459279360 Question Type : MCQ Option Shuffling : Yes Display Question Number : Yes
Single Line Question Option : No Option Orientation : Vertical

Correct Marks : 1 Wrong Marks : 0.25

गणित विज्ञान के लिए शांति स्वरूप भटनागर पुरस्कार 2018 किसने जीता?

Options :

- ✘ डॉ. राहुल बनर्जी
- ✔ डॉ. अमित कुमार
- ✘ डॉ. गणेश नागराजू
- ✘ डॉ. अमित अग्रवाल

Question Number : 69 Question Id : 5459279361 Question Type : MCQ Option Shuffling : Yes Display Question Number : Yes
Single Line Question Option : No Option Orientation : Vertical

Correct Marks : 1 Wrong Marks : 0.25

When is "World Day to Combat Desertification" observed?

Options :

- ✘ 28th October
- ✘ 9th July
- ✘ 20th March
- ✔ 17th June

Question Number : 69 Question Id : 5459279361 Question Type : MCQ Option Shuffling : Yes Display Question Number : Yes
Single Line Question Option : No Option Orientation : Vertical

Correct Marks : 1 Wrong Marks : 0.25

“वर्ल्ड डे टू कॉम्बैट डेजर्टिफिकेशन” कब मनाया जाता है?

Options :

1. ✘ 28 अक्टूबर
2. ✘ 9 जुलाई
3. ✘ 20 मार्च
4. ✔ 17 जून

Question Number : 70 Question Id : 5459279362 Question Type : MCQ Option Shuffling : Yes Display Question Number : Yes
Single Line Question Option : No Option Orientation : Vertical

Correct Marks : 1 Wrong Marks : 0.25

Who was conferred with Gandhi Peace Prize 2018?

Options :

1. ✘ Vivekananda Kendra
2. ✘ Ekal Abhiyan Trust
3. ✔ Yohei Sasakawa
4. ✘ Desmond Tutu

Question Number : 70 Question Id : 5459279362 Question Type : MCQ Option Shuffling : Yes Display Question Number : Yes
Single Line Question Option : No Option Orientation : Vertical

Correct Marks : 1 Wrong Marks : 0.25

गांधी शांति पुरस्कार 2018 किसे दिया गया था?

Options :

1. ✘ विवेकानंद केंद्र
2. ✘ एकल अभियान ट्रस्ट
3. ✔ योहेई सासाकावा
4. ✘ डेसमंड टूटू

Question Number : 71 Question Id : 5459279363 Question Type : MCQ Option Shuffling : Yes Display Question Number : Yes
Single Line Question Option : No Option Orientation : Vertical

Correct Marks : 1 Wrong Marks : 0.25

Which Indian is conferred with Maldives highest honour 'Nishan Izzudeen Award' ?

Options :

1. ✘ Mamta Banerjee
2. ✔ Narendra Modi
3. ✘ Priyanka Gandhi
4. ✘ Nirmala Sitharaman

Question Number : 71 Question Id : 5459279363 Question Type : MCQ Option Shuffling : Yes Display Question Number : Yes
Single Line Question Option : No Option Orientation : Vertical

Correct Marks : 1 Wrong Marks : 0.25

किस भारतीय को मालदीव के सर्वोच्च सम्मान 'निशान इज़्जुद्दीन अवार्ड' से सम्मानित किया गया है?

Options :

1. ✘ ममता बनर्जी
2. ✔ नरेंद्र मोदी
3. ✘ प्रियंका गांधी
4. ✘ निर्मला सीतारमण

Question Number : 72 Question Id : 5459279364 Question Type : MCQ Option Shuffling : Yes Display Question Number : Yes
Single Line Question Option : No Option Orientation : Vertical

Correct Marks : 1 Wrong Marks : 0.25

Which Indian writer won Nine Dots Book Prize 2019?

Options :

1. ✓ Annie Zaidi
2. ✗ Amitav Ghosh
3. ✗ Amish Tripathi
4. ✗ Arundhati Roy

Question Number : 72 Question Id : 5459279364 Question Type : MCQ Option Shuffling : Yes Display Question Number : Yes
Single Line Question Option : No Option Orientation : Vertical

Correct Marks : 1 Wrong Marks : 0.25

नाइन डॉट्स बुक पुरस्कार 2019 किस भारतीय लेखक ने जीता?

Options :

1. ✓ एनी जैदी
2. ✗ अमिताव घोष
3. ✗ अमीश त्रिपाठी
4. ✗ अरुंधति रॉय

Question Number : 73 Question Id : 5459279365 Question Type : MCQ Option Shuffling : Yes Display Question Number : Yes
Single Line Question Option : No Option Orientation : Vertical

Correct Marks : 1 Wrong Marks : 0.25

Which Indian actress won Dany Kaye Humanitarian Award?

Options :

1. ✗ Aishwarya Rai Bachchan
2. ✗ Hema Malini
3. ✗ Deepika Padukone
4. ✓ Priyanka Chopra

Question Number : 73 Question Id : 5459279365 Question Type : MCQ Option Shuffling : Yes Display Question Number : Yes
Single Line Question Option : No Option Orientation : Vertical

Correct Marks : 1 Wrong Marks : 0.25

किस भारतीय अभिनेत्री ने डैनी काय ह्युमेनिटेरियन अवॉर्ड जीता?

Options :

1. ✗ ऐश्वर्या राय बच्चन
2. ✗ हेमा मालिनी
3. ✗ दीपिका पादुकोण
4. ✓ प्रियंका चोपड़ा

Question Number : 74 Question Id : 5459279366 Question Type : MCQ Option Shuffling : Yes Display Question Number : Yes
Single Line Question Option : No Option Orientation : Vertical

Correct Marks : 1 Wrong Marks : 0.25

Article 368 of the Constitution of India is related to _____.

Options :

1. ✓ power of parliament to amend the constitution
2. ✗ impeachment of President
3. ✗ election of Vice President

4. ✖ governors of states

Question Number : 74 Question Id : 5459279366 Question Type : MCQ Option Shuffling : Yes Display Question Number : Yes
Single Line Question Option : No Option Orientation : Vertical

Correct Marks : 1 Wrong Marks : 0.25

भारतीय संविधान का अनुच्छेद 368 _____ से संबंधित है।

Options :

1. ✔ संविधान का संशोधन करने की संसद की शक्ति
2. ✖ राष्ट्रपति पर महाभियोग
3. ✖ उप राष्ट्रपति का निर्वाचन
4. ✖ राज्यों के राज्यपाल

Question Number : 75 Question Id : 5459279367 Question Type : MCQ Option Shuffling : Yes Display Question Number : Yes
Single Line Question Option : No Option Orientation : Vertical

Correct Marks : 1 Wrong Marks : 0.25

Who has powers to admit new states into the Union of India?

Options :

1. ✖ President
2. ✖ Home Minister
3. ✖ Vice President
4. ✔ Parliament

Question Number : 75 Question Id : 5459279367 Question Type : MCQ Option Shuffling : Yes Display Question Number : Yes
Single Line Question Option : No Option Orientation : Vertical

Correct Marks : 1 Wrong Marks : 0.25

भारत में नए राज्य शामिल करने की शक्ति किसके पास है?

Options :

1. ✖ राष्ट्रपति
2. ✖ ग्रह मंत्री
3. ✖ उप राष्ट्रपति
4. ✔ संसद

Question Number : 76 Question Id : 5459279368 Question Type : MCQ Option Shuffling : Yes Display Question Number : Yes
Single Line Question Option : No Option Orientation : Vertical

Correct Marks : 1 Wrong Marks : 0.25

Equality of opportunity in matters of public employment is mentioned in which Article of the constitution of India?

Options :

1. ✔ Article 16
2. ✖ Article 14
3. ✖ Article 20
4. ✖ Article 21

Question Number : 76 Question Id : 5459279368 Question Type : MCQ Option Shuffling : Yes Display Question Number : Yes
Single Line Question Option : No Option Orientation : Vertical

Correct Marks : 1 Wrong Marks : 0.25

लोक नियोजन के विषय में अवसर की समानता भारतीय संविधान के किस अनुच्छेद में है?

Options :

1. ✔ अनुच्छेद 16

2. ✘ अनुच्छेद 14
3. ✘ अनुच्छेद 20
4. ✘ अनुच्छेद 21

Question Number : 77 Question Id : 5459279369 Question Type : MCQ Option Shuffling : Yes Display Question Number : Yes
Single Line Question Option : No Option Orientation : Vertical

Correct Marks : 1 Wrong Marks : 0.25

Directive Principles of State Policy are adopted from which country's Constitution?

Options :

1. ✘ British Constitution
2. ✔ Irish Constitution
3. ✘ Canadian constitution
4. ✘ French Constitution

Question Number : 77 Question Id : 5459279369 Question Type : MCQ Option Shuffling : Yes Display Question Number : Yes
Single Line Question Option : No Option Orientation : Vertical

Correct Marks : 1 Wrong Marks : 0.25

राज्य नीति के निर्देशक तत्व किस देश के संविधान से लिये गये हैं?

Options :

1. ✘ ब्रिटिश संविधान
2. ✔ आयरिश संविधान
3. ✘ कैनेडियन संविधान
4. ✘ फ्रेंच संविधान

Question Number : 78 Question Id : 5459279370 Question Type : MCQ Option Shuffling : Yes Display Question Number : Yes
Single Line Question Option : No Option Orientation : Vertical

Correct Marks : 1 Wrong Marks : 0.25

Who got recognition as the winner of the Most Valuable Player (MVP) Trophy Award in Jakarta and Pelhamang Asian Games 2018?

Options :

1. ✘ Arpinder Singh
2. ✔ Rikako Ikee
3. ✘ PV Sindhu
4. ✘ Maria Sharapova

Question Number : 78 Question Id : 5459279370 Question Type : MCQ Option Shuffling : Yes Display Question Number : Yes
Single Line Question Option : No Option Orientation : Vertical

Correct Marks : 1 Wrong Marks : 0.25

जकार्ता और पैलेम्बैंग एशियाई खेल 2018 में मोस्ट वैल्यूएबल प्लेयर (एम.वी.पी.) ट्रॉफी अवार्ड के विजेता के रूप में किसे मान्यता मिली?

Options :

1. ✘ अरपिंदर सिंह
2. ✔ रिकाको आईकी
3. ✘ पीवी सिंधु
4. ✘ मारिया शारापोवा

Question Number : 79 Question Id : 5459279371 Question Type : MCQ Option Shuffling : Yes Display Question Number : Yes
Single Line Question Option : No Option Orientation : Vertical

Correct Marks : 1 Wrong Marks : 0.25

Which country has won Under-19 ICC World Cup 2018?

Options :

1. ✘ Pakistan
2. ✔ India
3. ✘ Australia
4. ✘ England

Question Number : 79 Question Id : 5459279371 Question Type : MCQ Option Shuffling : Yes Display Question Number : Yes
Single Line Question Option : No Option Orientation : Vertical

Correct Marks : 1 Wrong Marks : 0.25

किस देश ने अंडर -19 आईसीसी विश्व कप 2018 जीता है?

Options :

1. ✘ पाकिस्तान
2. ✔ इंडिया
3. ✘ ऑस्ट्रेलिया
4. ✘ इंग्लैंड

Question Number : 80 Question Id : 5459279372 Question Type : MCQ Option Shuffling : Yes Display Question Number : Yes
Single Line Question Option : No Option Orientation : Vertical

Correct Marks : 1 Wrong Marks : 0.25

Asian Wrestling Championships 2019 tournament was held in _____ country.

Options :

1. ✘ India
2. ✘ Indonesia
3. ✘ Japan
4. ✔ China

Question Number : 80 Question Id : 5459279372 Question Type : MCQ Option Shuffling : Yes Display Question Number : Yes
Single Line Question Option : No Option Orientation : Vertical

Correct Marks : 1 Wrong Marks : 0.25

एशियाई कुश्ती चैंपियनशिप 2019 टूर्नामेंट _____ देश में आयोजित की गई थी।

Options :

1. ✘ इंडिया
2. ✘ इंडोनेशिया
3. ✘ जापान
4. ✔ चीन

Arithmetic Ability1

Group Number :	5
Group Id :	545927465
Group Maximum Duration :	0
Group Minimum Duration :	0
Revisit allowed for view? :	No
Revisit allowed for edit? :	No
Break time:	0
Group Marks:	20
Revisit allowed for group Instructions? :	Yes
Maximum Instruction Time:	0
Minimum Instruction Time:	0

Arithmetic Ability 1

Section Id :	545927465
Section Number :	1
Section type :	Online
Mandatory or Optional:	Mandatory
Number of Questions:	20
Number of Questions to be attempted:	20
Section Marks:	20
Display Number Panel:	Yes
Group All Questions:	No

Sub-Section Number:	1
Sub-Section Id:	545927557
Question Shuffling Allowed :	Yes

Question Number : 81 Question Id : 5459279373 Question Type : MCQ Option Shuffling : Yes Display Question Number : Yes
Single Line Question Option : No Option Orientation : Vertical

Correct Marks : 1 Wrong Marks : 0.25

For what value of N, $156N$ is divisible by 8?

Options :

- ✓ 0
- ✗ 2
- ✗ 4
- ✗ 6

Question Number : 81 Question Id : 5459279373 Question Type : MCQ Option Shuffling : Yes Display Question Number : Yes
Single Line Question Option : No Option Orientation : Vertical

Correct Marks : 1 Wrong Marks : 0.25

N के किस मान के लिए $156N$, 8 से विभाज्य है?

Options :

- ✓ 0
- ✗ 2
- ✗ 4
- ✗ 6

Question Number : 82 Question Id : 5459279374 Question Type : MCQ Option Shuffling : Yes Display Question Number : Yes
Single Line Question Option : No Option Orientation : Vertical

Correct Marks : 1 Wrong Marks : 0.25

What is the value of $\sqrt[3]{0.729} + \sqrt{7.29} + \sqrt[4]{0.0081}$?

Options :

- ✗ 3.3
- ✓ 3.9
- ✗ 4.1
- ✗ 4.3

Question Number : 82 Question Id : 5459279374 Question Type : MCQ Option Shuffling : Yes Display Question Number : Yes
Single Line Question Option : No Option Orientation : Vertical

Correct Marks : 1 Wrong Marks : 0.25

$\sqrt[3]{0.729} + \sqrt{7.29} + \sqrt[4]{0.0081}$ का मान क्या है?

Options :

1. ✘ 3.3
2. ✔ 3.9
3. ✘ 4.1
4. ✘ 4.3

Question Number : 83 Question Id : 5459279375 Question Type : MCQ Option Shuffling : Yes Display Question Number : Yes
Single Line Question Option : No Option Orientation : Vertical

Correct Marks : 1 Wrong Marks : 0.25

What is the value of $(24 + 8 \times 4 \div 16 - 21) / (48 + 24 - 12 \times 6 \div 3)$?

Options :

1. ✘ 9/47
2. ✔ 5/48
3. ✘ 3/47
4. ✘ 2/41

Question Number : 83 Question Id : 5459279375 Question Type : MCQ Option Shuffling : Yes Display Question Number : Yes
Single Line Question Option : No Option Orientation : Vertical

Correct Marks : 1 Wrong Marks : 0.25

$(24 + 8 \times 4 \div 16 - 21) / (48 + 24 - 12 \times 6 \div 3)$ का मान क्या है?

Options :

1. ✘ 9/47
2. ✔ 5/48
3. ✘ 3/47
4. ✘ 2/41

Question Number : 84 Question Id : 5459279376 Question Type : MCQ Option Shuffling : Yes Display Question Number : Yes
Single Line Question Option : No Option Orientation : Vertical

Correct Marks : 1 Wrong Marks : 0.25

If $A = \frac{2}{3} + \frac{1}{6} + \frac{1}{18}$ and $B = \frac{1}{36} + \frac{1}{60} + \frac{1}{90}$ then, $(A + B)^2 = ?$

Options :

1. ✘ 256/289
2. ✔ 289/324
3. ✘ 256/441
4. ✘ 289/441

Question Number : 84 Question Id : 5459279376 Question Type : MCQ Option Shuffling : Yes Display Question Number : Yes
Single Line Question Option : No Option Orientation : Vertical

Correct Marks : 1 Wrong Marks : 0.25

यदि $A = \frac{2}{3} + \frac{1}{6} + \frac{1}{18}$ तथा $B = \frac{1}{36} + \frac{1}{60} + \frac{1}{90}$ तो, $(A + B)^2 = ?$

Options :

- ✘ 256/289
- ✔ 289/324
- ✘ 256/441
- ✘ 289/441

Question Number : 85 Question Id : 5459279377 Question Type : MCQ Option Shuffling : Yes Display Question Number : Yes
Single Line Question Option : No Option Orientation : Vertical
Correct Marks : 1 Wrong Marks : 0.25

What is the value of $(0.21)^2 \div (0.07)^3 \times (0.14)^2 + (0.26)^2 \div (0.13)^2 \times (0.2)^2 - (0.24)^3 \div (0.4)^2 \div (0.6)^2$?

Options :

- ✘ 1.86
- ✘ 2.86
- ✔ 2.44
- ✘ 3.12

Question Number : 85 Question Id : 5459279377 Question Type : MCQ Option Shuffling : Yes Display Question Number : Yes
Single Line Question Option : No Option Orientation : Vertical
Correct Marks : 1 Wrong Marks : 0.25

$(0.21)^2 \div (0.07)^3 \times (0.14)^2 + (0.26)^2 \div (0.13)^2 \times (0.2)^2 - (0.24)^3 \div (0.4)^2 \div (0.6)^2$ का मान क्या है?

Options :

- ✘ 1.86
- ✘ 2.86
- ✔ 2.44
- ✘ 3.12

Question Number : 86 Question Id : 5459279378 Question Type : MCQ Option Shuffling : Yes Display Question Number : Yes
Single Line Question Option : No Option Orientation : Vertical
Correct Marks : 1 Wrong Marks : 0.25

What is the value of $(24 + 8 \div 10 \times 8 + 9 - 21) / (58 + 24 \times 6 \div 10 - 8)$?

Options :

- ✘ 5/8
- ✘ 3/8
- ✘ 3/7
- ✔ 2/7

Question Number : 86 Question Id : 5459279378 Question Type : MCQ Option Shuffling : Yes Display Question Number : Yes
Single Line Question Option : No Option Orientation : Vertical
Correct Marks : 1 Wrong Marks : 0.25

$(24 + 8 \div 10 \times 8 + 9 - 21) / (58 + 24 \times 6 \div 10 - 8)$ का मान क्या है?

Options :

- ✘ 5/8
- ✘ 3/8
- ✘ 3/7
- ✔ 2/7

Question Number : 87 Question Id : 5459279379 Question Type : MCQ Option Shuffling : Yes Display Question Number : Yes
Single Line Question Option : No Option Orientation : Vertical

Correct Marks : 1 Wrong Marks : 0.25

What is the value of
$$\frac{\frac{4}{11} \div \frac{16}{22} + \frac{3}{4} \times \frac{12}{9} - \frac{6}{7} \div \frac{18}{21} \times \frac{9}{4}}{\frac{1}{2} \div \frac{1}{2} \times \frac{1}{2} + \frac{1}{2}} ?$$

Options :

1. ✓ -3/4
2. ✗ -1/2
3. ✗ -3/8
4. ✗ -1/4

Question Number : 87 Question Id : 5459279379 Question Type : MCQ Option Shuffling : Yes Display Question Number : Yes
Single Line Question Option : No Option Orientation : Vertical

Correct Marks : 1 Wrong Marks : 0.25

$$\frac{\frac{4}{11} \div \frac{16}{22} + \frac{3}{4} \times \frac{12}{9} - \frac{6}{7} \div \frac{18}{21} \times \frac{9}{4}}{\frac{1}{2} \div \frac{1}{2} \times \frac{1}{2} + \frac{1}{2}}$$
 का मान क्या है?

Options :

1. ✓ -3/4
2. ✗ -1/2
3. ✗ -3/8
4. ✗ -1/4

Question Number : 88 Question Id : 5459279380 Question Type : MCQ Option Shuffling : Yes Display Question Number : Yes
Single Line Question Option : No Option Orientation : Vertical

Correct Marks : 1 Wrong Marks : 0.25

If A = Least Common Multiple of (2/3), (3/5), (6/7) and B = Highest Common Factor of (7/9), (3/5), (1/4), then what is the value of (A + B) × A?

Options :

1. ✗ 1071/30
2. ✗ 1101/240
3. ✓ 1081/30
4. ✗ 1701/120

Question Number : 88 Question Id : 5459279380 Question Type : MCQ Option Shuffling : Yes Display Question Number : Yes
Single Line Question Option : No Option Orientation : Vertical

Correct Marks : 1 Wrong Marks : 0.25

यदि A = (2/3), (3/5), (6/7) का लघुत्तम समापवर्त्य तथा B = (7/9), (3/5), (1/4) का महत्तम समापवर्तक है, तो (A + B) × A का मान क्या है?

Options :

1. ✗ 1071/30
2. ✗ 1101/240
3. ✓ 1081/30
4. ✗ 1701/120

Question Number : 89 Question Id : 5459279381 Question Type : MCQ Option Shuffling : Yes Display Question Number : Yes
Single Line Question Option : No Option Orientation : Vertical

Correct Marks : 1 Wrong Marks : 0.25

What is the value of $18 \div 3 \times 54 + 27 + 362 \div 5 \times 7$?

Options :

1. ✘ 520.9

2. ✔ 857.8

3. ✘ 526.8

4. ✘ 480.8

Question Number : 89 Question Id : 5459279381 Question Type : MCQ Option Shuffling : Yes Display Question Number : Yes
Single Line Question Option : No Option Orientation : Vertical

Correct Marks : 1 Wrong Marks : 0.25

$18 \div 3 \times 54 + 27 + 362 \div 5 \times 7$ का मान क्या है?

Options :

1. ✘ 520.9

2. ✔ 857.8

3. ✘ 526.8

4. ✘ 480.8

Question Number : 90 Question Id : 5459279382 Question Type : MCQ Option Shuffling : Yes Display Question Number : Yes
Single Line Question Option : No Option Orientation : Vertical

Correct Marks : 1 Wrong Marks : 0.25

When N is divided by 5, 6 and 8 it leaves a remainder 3, 4 and 6 respectively. What can be the value of N?

I. 1918

II. 1558

III. 2158

IV. 2035

Options :

1. ✘ I and IV

2. ✘ IV and II

3. ✔ I, II and III

4. ✘ II and III

Question Number : 90 Question Id : 5459279382 Question Type : MCQ Option Shuffling : Yes Display Question Number : Yes
Single Line Question Option : No Option Orientation : Vertical

Correct Marks : 1 Wrong Marks : 0.25

जब N को 5, 6 तथा 8 से विभाजित किया जाता है यह शेषफल क्रमशः 3, 4 तथा 6 छोड़ता है। N का मान क्या हो सकता है?

I. 1918

II. 1558

III. 2158

IV. 2035

Options :

1. ✘ I तथा IV

2. ✘ IV तथा II

3. ✔ I, II तथा III

4. ✘ II तथा III

Question Number : 91 Question Id : 5459279383 Question Type : MCQ Option Shuffling : Yes Display Question Number : Yes
Single Line Question Option : No Option Orientation : Vertical

Correct Marks : 1 Wrong Marks : 0.25

If discount offered on an article is Rs 280 and the selling price of this article is Rs 1320, then what is the ratio of the marked price of this article to the discount offered?

Options :

1. ✘ 7 : 40
2. ✘ 11 : 37
3. ✘ 37 : 11
4. ✔ 40 : 7

Question Number : 91 Question Id : 5459279383 Question Type : MCQ Option Shuffling : Yes Display Question Number : Yes
Single Line Question Option : No Option Orientation : Vertical

Correct Marks : 1 Wrong Marks : 0.25

यदि एक वस्तु पर 280 रुपये की छूट दी गयी है तथा इस वस्तु का विक्रय मूल्य 1320 रुपये है, तो इस वस्तु के अंकित मूल्य का दी गयी छूट से क्या अनुपात है?

Options :

1. ✘ 7 : 40
2. ✘ 11 : 37
3. ✘ 37 : 11
4. ✔ 40 : 7

Question Number : 92 Question Id : 5459279384 Question Type : MCQ Option Shuffling : Yes Display Question Number : Yes
Single Line Question Option : No Option Orientation : Vertical

Correct Marks : 1 Wrong Marks : 0.25

Rajan purchases a watch for Rs 3000 and marks its marked price in such a way that after allowing a discount of 10 percent, he still earns a profit of 20 percent. What is the marked price of the article?

Options :

1. ✔ Rs 4000
2. ✘ Rs 4200
3. ✘ Rs 5400
4. ✘ Rs 4800

Question Number : 92 Question Id : 5459279384 Question Type : MCQ Option Shuffling : Yes Display Question Number : Yes
Single Line Question Option : No Option Orientation : Vertical

Correct Marks : 1 Wrong Marks : 0.25

राजन एक घड़ी को 3000 रुपये में खरीदता है तथा उसके अंकित मूल्य को इस प्रकार अंकित करता है कि 10 प्रतिशत की छूट देने के पश्चात भी उसे 20 प्रतिशत का लाभ होता है। वस्तु का अंकित मूल्य क्या है?

Options :

1. ✔ 4000 रुपये
2. ✘ 4200 रुपये
3. ✘ 5400 रुपये
4. ✘ 4800 रुपये

Question Number : 93 Question Id : 5459279385 Question Type : MCQ Option Shuffling : Yes Display Question Number : Yes
Single Line Question Option : No Option Orientation : Vertical

Correct Marks : 1 Wrong Marks : 0.25

Average of 34 numbers was calculated as 15. Three numbers 14, 56 and 32 were wrongly taken as 47, 51 and 38. If we now consider the correct numbers, then what is the corrected average?

Options :

1. ✖ 17
2. ✖ 18
3. ✔ 14
4. ✖ 19

Question Number : 93 Question Id : 5459279385 Question Type : MCQ Option Shuffling : Yes Display Question Number : Yes Single Line Question Option : No Option Orientation : Vertical

Correct Marks : 1 Wrong Marks : 0.25

34 संख्याओं का औसत 15 परिकलित किया गया था। तीन संख्याओं 14, 56 तथा 32 को गलती से 47, 51 तथा 38 ले लिया गया था। यदि हम अब जो संख्याएँ गलत रिकॉर्ड गई थीं उनकी जगह सही संख्याएँ रिकॉर्ड करें तो सही औसत क्या होगी?

Options :

1. ✖ 17
2. ✖ 18
3. ✔ 14
4. ✖ 19

Question Number : 94 Question Id : 5459279386 Question Type : MCQ Option Shuffling : Yes Display Question Number : Yes Single Line Question Option : No Option Orientation : Vertical

Correct Marks : 1 Wrong Marks : 0.25

1176 is what percentage of 1680?

Options :

1. ✖ 30 percent
2. ✖ 60 percent
3. ✖ 90 percent
4. ✔ 70 percent

Question Number : 94 Question Id : 5459279386 Question Type : MCQ Option Shuffling : Yes Display Question Number : Yes Single Line Question Option : No Option Orientation : Vertical

Correct Marks : 1 Wrong Marks : 0.25

1176, 1680 का कितना प्रतिशत है?

Options :

1. ✖ 30 प्रतिशत
2. ✖ 60 प्रतिशत
3. ✖ 90 प्रतिशत
4. ✔ 70 प्रतिशत

Question Number : 95 Question Id : 5459279387 Question Type : MCQ Option Shuffling : Yes Display Question Number : Yes Single Line Question Option : No Option Orientation : Vertical

Correct Marks : 1 Wrong Marks : 0.25

J को 40 प्रतिशत से घटाया गया है तथा फिर इसे 70 प्रतिशत से बढ़ाया गया है। J का अंतिम मान J के प्रारंभिक मान का कितना प्रतिशत है?

Options :

1. ✖ 112 प्रतिशत
2. ✔ 102 प्रतिशत
3. ✖ 98 प्रतिशत
4. ✖ 94 प्रतिशत

Question Number : 95 Question Id : 5459279387 Question Type : MCQ Option Shuffling : Yes Display Question Number : Yes Single Line Question Option : No Option Orientation : Vertical

Correct Marks : 1 Wrong Marks : 0.25

J is decreased by 40 percent and then it is increased by 70 percent. Final value of J is what percent of initial value of J?

Options :

- ✘ 112 percent
- ✔ 102 percent
- ✘ 98 percent
- ✘ 94 percent

Question Number : 96 Question Id : 5459279388 Question Type : MCQ Option Shuffling : Yes Display Question Number : Yes Single Line Question Option : No Option Orientation : Vertical

Correct Marks : 1 Wrong Marks : 0.25

N is 80 percent more than T. T is 25 percent more than G. G is 40 percent less than H. N is what percentage of H?

Options :

- ✘ 125 percent
- ✔ 135 percent
- ✘ 140 percent
- ✘ 130 percent

Question Number : 96 Question Id : 5459279388 Question Type : MCQ Option Shuffling : Yes Display Question Number : Yes Single Line Question Option : No Option Orientation : Vertical

Correct Marks : 1 Wrong Marks : 0.25

N, T से 80 प्रतिशत अधिक है T, G से 25 प्रतिशत अधिक है G, H से 40 प्रतिशत कम है N, H का कितना प्रतिशत है?

Options :

- ✘ 125 प्रतिशत
- ✔ 135 प्रतिशत
- ✘ 140 प्रतिशत
- ✘ 130 प्रतिशत

Question Number : 97 Question Id : 5459279389 Question Type : MCQ Option Shuffling : Yes Display Question Number : Yes Single Line Question Option : No Option Orientation : Vertical

Correct Marks : 1 Wrong Marks : 0.25

The selling price of a laptop is Rs 4000. If the profit percentage is 25 percent, then what is the cost price of the article?

Options :

- ✔ Rs 3200
- ✘ Rs 3600
- ✘ Rs 3000
- ✘ Rs 3400

Question Number : 97 Question Id : 5459279389 Question Type : MCQ Option Shuffling : Yes Display Question Number : Yes Single Line Question Option : No Option Orientation : Vertical

Correct Marks : 1 Wrong Marks : 0.25

एक लैपटॉप का विक्रय मूल्य 4000 रुपये है। यदि लाभ प्रतिशत 25 प्रतिशत है, तो वस्तु का क्रय मूल्य क्या है?

Options :

- ✔ 3200 रुपये
- ✘ 3600 रुपये
- ✘ 3000 रुपये
- ✘ 3400 रुपये

Question Number : 98 Question Id : 5459279390 Question Type : MCQ Option Shuffling : Yes Display Question Number : Yes
Single Line Question Option : No Option Orientation : Vertical

Correct Marks : 1 Wrong Marks : 0.25

An article is sold for Rs 1150 at a profit of 25 percent. If one wishes to increase the profit percentage to 60, then what will be the selling price of the article?

Options :

- ✘ Rs 1532
- ✘ Rs 1448
- ✘ Rs 1368
- ✔ Rs 1472

Question Number : 98 Question Id : 5459279390 Question Type : MCQ Option Shuffling : Yes Display Question Number : Yes
Single Line Question Option : No Option Orientation : Vertical

Correct Marks : 1 Wrong Marks : 0.25

एक वस्तु को 1150 रुपये में 25 प्रतिशत के लाभ पर बेचा गया है। यदि 60 प्रतिशत लाभ अर्जित करना हो तो वस्तु का विक्रय मूल्य क्या होगा?

Options :

- ✘ 1532 रुपये
- ✘ 1448 रुपये
- ✘ 1368 रुपये
- ✔ 1472 रुपये

Question Number : 99 Question Id : 5459279391 Question Type : MCQ Option Shuffling : Yes Display Question Number : Yes
Single Line Question Option : No Option Orientation : Vertical

Correct Marks : 1 Wrong Marks : 0.25

The profit earned by selling a watch for Rs 1880 is equal to the loss incurred by selling the same watch for Rs 1040. What should be the selling price of the watch to earn a profit of 35 percent?

Options :

- ✔ Rs 1971
- ✘ Rs 1873
- ✘ Rs 2013
- ✘ Rs 1963

Question Number : 99 Question Id : 5459279391 Question Type : MCQ Option Shuffling : Yes Display Question Number : Yes
Single Line Question Option : No Option Orientation : Vertical

Correct Marks : 1 Wrong Marks : 0.25

एक घड़ी को 1880 रुपये में बेचने पर कमाया गया लाभ उसी घड़ी को 1040 रुपये में बेचने पर हुई हानि के बराबर है। 35 प्रतिशत का लाभ कमाने के लिए, घड़ी का विक्रय मूल्य क्या होना चाहिए?

Options :

- ✔ 1971 रुपये
- ✘ 1873 रुपये
- ✘ 2013 रुपये
- ✘ 1963 रुपये

Question Number : 100 Question Id : 5459279392 Question Type : MCQ Option Shuffling : Yes Display Question Number : Yes
Single Line Question Option : No Option Orientation : Vertical

Correct Marks : 1 Wrong Marks : 0.25

If $a : b = 2 : 1$, then what is the value of $\frac{a^2 + b^2}{a^2 - b^2}$?

Options :

1. ✘ 5/2
2. ✔ 5/3
3. ✘ 3/2
4. ✘ 4/3

Question Number : 100 Question Id : 5459279392 Question Type : MCQ Option Shuffling : Yes Display Question Number : Yes
Single Line Question Option : No Option Orientation : Vertical

Correct Marks : 1 Wrong Marks : 0.25

यदि $a : b = 2 : 1$ है, तो $\frac{a^2 + b^2}{a^2 - b^2}$ का मान क्या है?

Options :

1. ✘ 5/2
2. ✔ 5/3
3. ✘ 3/2
4. ✘ 4/3

Arithmetic Ability2

Group Number :	6
Group Id :	545927466
Group Maximum Duration :	0
Group Minimum Duration :	0
Revisit allowed for view? :	No
Revisit allowed for edit? :	No
Break time:	0
Group Marks:	20
Revisit allowed for group Instructions? :	Yes
Maximum Instruction Time:	0
Minimum Instruction Time:	0

Arithmetic Ability2

Section Id :	545927466
Section Number :	1
Section type :	Online
Mandatory or Optional:	Mandatory
Number of Questions:	20
Number of Questions to be attempted:	20
Section Marks:	20
Display Number Panel:	Yes
Group All Questions:	No

Sub-Section Number:	1
Sub-Section Id:	545927558
Question Shuffling Allowed :	Yes

Question Number : 101 Question Id : 5459279393 Question Type : MCQ Option Shuffling : Yes Display Question Number : Yes
Single Line Question Option : No Option Orientation : Vertical

Correct Marks : 1 Wrong Marks : 0.25

The ratio of the annual income of Rohit and Rahul is 6 : 7. The ratio of their expenditures is 9 : 11. If each saves Rs 3000, then what is the annual income of Rahul?

Options :

1. ✘ Rs 18000
2. ✘ Rs 16000
3. ✔ Rs 14000
4. ✘ Rs 12000

Question Number : 101 Question Id : 5459279393 Question Type : MCQ Option Shuffling : Yes Display Question Number : Yes
Single Line Question Option : No Option Orientation : Vertical

Correct Marks : 1 Wrong Marks : 0.25

रोहित तथा राहुल की वार्षिक आय का अनुपात 6 : 7 है उनके व्यय का अनुपात 9 : 11 है यदि प्रत्येक 3000 रुपये बचाता है, तो राहुल की वार्षिक आय क्या है?

Options :

1. ✘ 18000 रुपये
2. ✘ 16000 रुपये
3. ✔ 14000 रुपये
4. ✘ 12000 रुपये

Question Number : 102 Question Id : 5459279394 Question Type : MCQ Option Shuffling : Yes Display Question Number : Yes
Single Line Question Option : No Option Orientation : Vertical

Correct Marks : 1 Wrong Marks : 0.25

X, Y and Z started a partnership. X invested some money at the beginning. After 6 months Y invested double the amount that X invested. After 8 months Z invested thrice the amount that X invested. If the annual profit is Rs 21000, then what is the share of Z?

Options :

1. ✘ Rs 9000
2. ✔ Rs 7000
3. ✘ Rs 8000
4. ✘ Rs 6000

Question Number : 102 Question Id : 5459279394 Question Type : MCQ Option Shuffling : Yes Display Question Number : Yes
Single Line Question Option : No Option Orientation : Vertical

Correct Marks : 1 Wrong Marks : 0.25

X, Y तथा Z एक साझेदारी करते हैं। X शुरुआत में कुछ पैसा निवेश करता है। 6 माह पश्चात Y, X के निवेश से दोगुना निवेश करता है। 8 माह पश्चात Z, X के निवेश से तीन गुना निवेश करता है। यदि वार्षिक लाभ 21000 रुपये है, तो Z का हिस्सा क्या है?

Options :

1. ✘ 9000 रुपये
2. ✔ 7000 रुपये
3. ✘ 8000 रुपये
4. ✘ 6000 रुपये

Question Number : 103 Question Id : 5459279395 Question Type : MCQ Option Shuffling : Yes Display Question Number : Yes
Single Line Question Option : No Option Orientation : Vertical

Correct Marks : 1 Wrong Marks : 0.25

Rs 31000 gives Rs 8370 simple interest in t years. If the rate of interest is 9 percent per annum, then what is the value of t?

Options :

1. ✘ 5 years
2. ✘ 2 years
3. ✘ 4 years
4. ✔ 3 years

Question Number : 103 Question Id : 5459279395 Question Type : MCQ Option Shuffling : Yes Display Question Number : Yes Single Line Question Option : No Option Orientation : Vertical

Correct Marks : 1 Wrong Marks : 0.25

31000 रुपये t वर्षों में 8370 रुपये साधारण ब्याज देते हैं। यदि ब्याज की दर 9 प्रतिशत प्रति वर्ष है, तो t का मान क्या है?

Options :

1. ✘ 5 वर्ष
2. ✘ 2 वर्ष
3. ✘ 4 वर्ष
4. ✔ 3 वर्ष

Question Number : 104 Question Id : 5459279396 Question Type : MCQ Option Shuffling : Yes Display Question Number : Yes Single Line Question Option : No Option Orientation : Vertical

Correct Marks : 1 Wrong Marks : 0.25

When kept at simple interest, Rs 18000 becomes Rs 29520 in 4 years. How much will it become in 9 years?

Options :

1. ✘ Rs 42860
2. ✔ Rs 43920
3. ✘ Rs 45860
4. ✘ Rs 44940

Question Number : 104 Question Id : 5459279396 Question Type : MCQ Option Shuffling : Yes Display Question Number : Yes Single Line Question Option : No Option Orientation : Vertical

Correct Marks : 1 Wrong Marks : 0.25

साधारण ब्याज पर रखे जाने पर 18000 रुपये 4 वर्ष में 29520 रुपये हो जाते हैं। वह 9 वर्षों में कितने हो जाएँगे?

Options :

1. ✘ 42860 रुपये
2. ✔ 43920 रुपये
3. ✘ 45860 रुपये
4. ✘ 44940 रुपये

Question Number : 105 Question Id : 5459279397 Question Type : MCQ Option Shuffling : Yes Display Question Number : Yes Single Line Question Option : No Option Orientation : Vertical

Correct Marks : 1 Wrong Marks : 0.25

Rs 40000 are kept at compound interest. If the rate of interest is 15 percent per annum, then what is the interest for 3 years?

Options :

1. ✘ Rs 21085
2. ✘ Rs 19225
3. ✘ Rs 21415
4. ✔ Rs 20835

Question Number : 105 Question Id : 5459279397 Question Type : MCQ Option Shuffling : Yes Display Question Number : Yes Single Line Question Option : No Option Orientation : Vertical

Correct Marks : 1 Wrong Marks : 0.25

40000 रुपये को चक्रवृद्धि ब्याज पर रखा जाता है यदि ब्याज की दर 15 प्रतिशत प्रति वर्ष है, तो 3 वर्ष का ब्याज क्या होगा?

Options :

1. ✘ 21085 रुपये
2. ✘ 19225 रुपये
3. ✘ 21415 रुपये
4. ✔ 20835 रुपये

Question Number : 106 Question Id : 5459279398 Question Type : MCQ Option Shuffling : Yes Display Question Number : Yes Single Line Question Option : No Option Orientation : Vertical

Correct Marks : 1 Wrong Marks : 0.25

Speed of a boat in downstream is 18 km/hr and speed of boat in upstream is 8 km/hr. What is the speed of stream?

Options :

1. ✘ 11 km/hr
2. ✘ 13 km/hr
3. ✔ 5 km/hr
4. ✘ 4 km/hr

Question Number : 106 Question Id : 5459279398 Question Type : MCQ Option Shuffling : Yes Display Question Number : Yes Single Line Question Option : No Option Orientation : Vertical

Correct Marks : 1 Wrong Marks : 0.25

एक नाव की गति धारा के अनुकूल 18 कि.मी./घंटा है तथा नाव की गति धारा के प्रतिकूल 8 कि.मी./घंटा है। धारा की गति क्या है?

Options :

1. ✘ 11 कि.मी./घंटा
2. ✘ 13 कि.मी./घंटा
3. ✔ 5 कि.मी./घंटा
4. ✘ 4 कि.मी./घंटा

Question Number : 107 Question Id : 5459279399 Question Type : MCQ Option Shuffling : Yes Display Question Number : Yes Single Line Question Option : No Option Orientation : Vertical

Correct Marks : 1 Wrong Marks : 0.25

A boat can row 10 km in 5 hours in still water. It can row 60 km downstream and 40 km upstream in 60 hours. What is the speed of the stream?

Options :

1. ✘ 0.25 km/hr
2. ✘ 0.5 km/hr
3. ✘ 1.5 km/hr
4. ✔ 1 km/hr

Question Number : 107 Question Id : 5459279399 Question Type : MCQ Option Shuffling : Yes Display Question Number : Yes Single Line Question Option : No Option Orientation : Vertical

Correct Marks : 1 Wrong Marks : 0.25

एक नाव स्थिर जल में 5 घंटे में 10 कि.मी. चल सकती है यह 60 घंटे में 60 कि.मी. धारा के अनुकूल तथा 40 कि.मी. धारा के प्रतिकूल चल सकती है। धारा की गति क्या है?

Options :

1. ✘ 0.25 कि.मी./घंटा
2. ✘ 0.5 कि.मी./घंटा
3. ✘ 1.5 कि.मी./घंटा
4. ✔ 1 कि.मी./घंटा

Question Number : 108 Question Id : 5459279400 Question Type : MCQ Option Shuffling : Yes Display Question Number : Yes
Single Line Question Option : No Option Orientation : Vertical

Correct Marks : 1 Wrong Marks : 0.25

A car moves at the speed of 60 km/hr and reaches its destination 50 minutes late. If car moves at the speed of 100 km/hr, then it reaches its destination 30 minutes early. At what speed would the car reach its destination exactly on time?

Options :

1. ✘ 96 km/hr
2. ✘ 84 km/hr
3. ✘ 72 km/hr
4. ✔ 80 km/hr

Question Number : 108 Question Id : 5459279400 Question Type : MCQ Option Shuffling : Yes Display Question Number : Yes
Single Line Question Option : No Option Orientation : Vertical

Correct Marks : 1 Wrong Marks : 0.25

एक कार 60 कि.मी./घंटा की गति से चलती है तथा अपने गंतव्य स्थान पर 50 मिनट की देरी से पहुँचती है। यदि कार 100 कि.मी./घंटा की गति से चलती है, तो अपने गंतव्य स्थान पर 30 मिनट जल्दी पहुँच जाती है। सही समय पर पहुँचने के लिए कार की गति क्या होगी?

Options :

1. ✘ 96 कि.मी./घंटा
2. ✘ 84 कि.मी./घंटा
3. ✘ 72 कि.मी./घंटा
4. ✔ 80 कि.मी./घंटा

Question Number : 109 Question Id : 5459279401 Question Type : MCQ Option Shuffling : Yes Display Question Number : Yes
Single Line Question Option : No Option Orientation : Vertical

Correct Marks : 1 Wrong Marks : 0.25

3 men and 4 boys can complete a task in 15 days. 4 men and 3 boys can complete the same task in 12 days. How much time will 2 men and 3 boys take to finish the work?

Options :

1. ✔ 420/19 days
2. ✘ 420/17 days
3. ✘ 22 days
4. ✘ 20 days

Question Number : 109 Question Id : 5459279401 Question Type : MCQ Option Shuffling : Yes Display Question Number : Yes
Single Line Question Option : No Option Orientation : Vertical

Correct Marks : 1 Wrong Marks : 0.25

3 पुरुष तथा 4 लड़के एक कार्य को 15 दिन में कर सकते हैं। 4 पुरुष तथा 3 लड़के उसी कार्य को 12 दिन में कर सकते हैं। 2 पुरुष तथा 3 लड़के कार्य को पूरा करने में कितना समय लेंगे?

Options :

1. ✔ 420/19 दिन
2. ✘ 420/17 दिन
3. ✘ 22 दिन
4. ✘ 20 दिन

Question Number : 110 Question Id : 5459279402 Question Type : MCQ Option Shuffling : Yes Display Question Number : Yes
Single Line Question Option : No Option Orientation : Vertical

Correct Marks : 1 Wrong Marks : 0.25

Ram and Shyam together complete a task in 20 days. If Ram alone can complete half of the work in 15 days, then in how many days can Shyam alone complete the same task?

Options :

1. ✘ 30 days
2. ✘ 40/3 days
3. ✔ 60 days
4. ✘ 60/7 days

Question Number : 110 Question Id : 5459279402 Question Type : MCQ Option Shuffling : Yes Display Question Number : Yes
Single Line Question Option : No Option Orientation : Vertical

Correct Marks : 1 Wrong Marks : 0.25

राम और श्याम एक कार्य को 20 दिन में पूरा कर सकते हैं। यदि राम अकेला आधे कार्य को 15 दिन में पूरा कर सकता है, तो श्याम अकेला समान कार्य को कितने दिन में पूरा कर सकता है?

Options :

1. ✘ 30 दिन
2. ✘ 40/3 दिन
3. ✔ 60 दिन
4. ✘ 60/7 दिन

Question Number : 111 Question Id : 5459279403 Question Type : MCQ Option Shuffling : Yes Display Question Number : Yes
Single Line Question Option : No Option Orientation : Vertical

Correct Marks : 1 Wrong Marks : 0.25

A alone can complete a task in 5 days. B alone can complete the same task in 10 days. With the help of C, they can do the same amount of work in 2 days. If they receive a amount of Rs 2500 to complete the whole task, then what is the share of C?

Options :

1. ✘ Rs 750
2. ✘ Rs 500
3. ✘ Rs 850
4. ✔ Rs 1000

Question Number : 111 Question Id : 5459279403 Question Type : MCQ Option Shuffling : Yes Display Question Number : Yes
Single Line Question Option : No Option Orientation : Vertical

Correct Marks : 1 Wrong Marks : 0.25

A अकेला एक कार्य को 5 दिन में कर सकता है। B अकेला उसी कार्य को 10 दिन में कर सकता है। C की मदद से, वे समान कार्य को 2 दिन में कर सकते हैं। यदि उन्हें संपूर्ण कार्य पूरा करने के लिए 2500 रुपये की एक राशि प्राप्त होती है, तो C का हिस्सा क्या है?

Options :

1. ✘ 750 रुपये
2. ✘ 500 रुपये
3. ✘ 850 रुपये
4. ✔ 1000 रुपये

Question Number : 112 Question Id : 5459279404 Question Type : MCQ Option Shuffling : Yes Display Question Number : Yes
Single Line Question Option : No Option Orientation : Vertical

Correct Marks : 1 Wrong Marks : 0.25

एक घनाभ की लंबाई, चौड़ाई तथा ऊँचाई का योग 30 से.मी. है। इसका विकर्ण 20 से.मी. लंबा है। घनाभ का कुल पृष्ठिय क्षेत्रफल क्या है?

Options :

1. ✘ 100 से.मी.²

2. ✓ 500 से.मी.²

3. ✗ 250 से.मी.²

4. ✗ 650 से.मी.²

Question Number : 112 Question Id : 5459279404 Question Type : MCQ Option Shuffling : Yes Display Question Number : Yes
Single Line Question Option : No Option Orientation : Vertical

Correct Marks : 1 Wrong Marks : 0.25

The sum of the length, breadth, and height of a cuboid is 30 cm. Its diagonal is 20 cm long. What is the total surface area of the cuboid?

Options :

1. ✗ 100 cm²

2. ✓ 500 cm²

3. ✗ 250 cm²

4. ✗ 650 cm²

Question Number : 113 Question Id : 5459279405 Question Type : MCQ Option Shuffling : Yes Display Question Number : Yes
Single Line Question Option : No Option Orientation : Vertical

Correct Marks : 1 Wrong Marks : 0.25

The lengths of the parallel sides of a trapezium are 60 cm and 80 cm respectively. The lengths of the non parallel sides are 10 cm and 20 cm respectively. What is the area of this trapezium?

Options :

1. ✗ $135\sqrt{15}$ cm²

2. ✓ $175\sqrt{15}$ cm²

3. ✗ $235\sqrt{15}$ cm²

4. ✗ $215\sqrt{15}$ cm²

Question Number : 113 Question Id : 5459279405 Question Type : MCQ Option Shuffling : Yes Display Question Number : Yes
Single Line Question Option : No Option Orientation : Vertical

Correct Marks : 1 Wrong Marks : 0.25

एक असमांतरभुज की समानांतर भुजाओं की लंबाई क्रमशः 60 से.मी. तथा 80 से.मी. है। असमानांतर भुजाओं की लंबाई क्रमशः 10 से.मी. तथा 20 से.मी. है। इस असमांतरभुज का क्षेत्रफल क्या है?

Options :

1. ✘ $135\sqrt{15}$ से.मी.²
2. ✔ $175\sqrt{15}$ से.मी.²
3. ✘ $235\sqrt{15}$ से.मी.²
4. ✘ $215\sqrt{15}$ से.मी.²

Question Number : 114 Question Id : 5459279406 Question Type : MCQ Option Shuffling : Yes Display Question Number : Yes
Single Line Question Option : No Option Orientation : Vertical

Correct Marks : 1 Wrong Marks : 0.25

The total surface area of a cylinder is 1760 cm^2 . If the radius of the cylinder is 14 cm, then what is the height of the cylinder?

Options :

1. ✘ 5 cm
2. ✘ 7 cm
3. ✔ 6 cm
4. ✘ 8 cm

Question Number : 114 Question Id : 5459279406 Question Type : MCQ Option Shuffling : Yes Display Question Number : Yes
Single Line Question Option : No Option Orientation : Vertical

Correct Marks : 1 Wrong Marks : 0.25

एक बेलन का कुल पृष्ठीय क्षेत्रफल 1760 से.मी.² है। यदि बेलन की त्रिज्या 14 से.मी. है, तो बेलन की ऊँचाई क्या है?

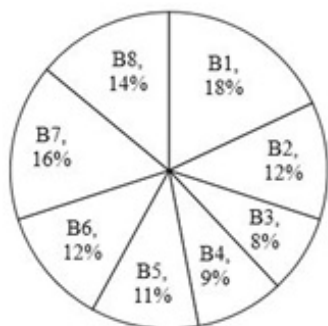
Options :

1. ✘ 5 से.मी.
2. ✘ 7 से.मी.
3. ✔ 6 से.मी.
4. ✘ 8 से.मी.

Question Number : 115 Question Id : 5459279407 Question Type : MCQ Option Shuffling : Yes Display Question Number : Yes
Single Line Question Option : No Option Orientation : Vertical

Correct Marks : 1 Wrong Marks : 0.25

The pie chart given below shows the number of buses that depart from different bus stations on Monday. The number of buses that depart from a particular bus station on Monday are shown as the percentage of the total number of buses that depart on Monday.



If the total number of buses that depart on Monday are 2300, then the number of buses that depart from B1 is how much more than the number of buses that depart from B3?

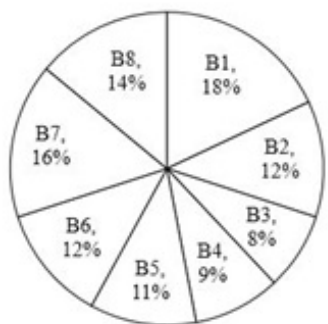
Options :

1. ✘ 210
2. ✘ 220
3. ✔ 230
4. ✘ 240

Question Number : 115 Question Id : 5459279407 Question Type : MCQ Option Shuffling : Yes Display Question Number : Yes Single Line Question Option : No Option Orientation : Vertical

Correct Marks : 1 Wrong Marks : 0.25

नीचे दिया गया वृत्त चित्र सोमवार को विभिन्न बस अड्डों से निकलने वाली बसों की संख्या को दर्शाता है। एक विशिष्ट बस अड्डे से सोमवार को निकलने वाली बसों की संख्या को सोमवार को निकलने वाली बसों की कुल संख्या के प्रतिशत के रूप में दर्शाया गया है।



यदि सोमवार को निकलने वाली बसों की कुल संख्या 2300 है, तो B1 से निकलने वाली बसों की संख्या, B3 से निकलने वाली बसों की संख्या से कितनी अधिक है?

Options :

1. ✘ 210
2. ✘ 220
3. ✔ 230
4. ✘ 240

Question Number : 116 Question Id : 5459279408 Question Type : MCQ Option Shuffling : Yes Display Question Number : Yes Single Line Question Option : No Option Orientation : Vertical

Correct Marks : 1 Wrong Marks : 0.25

The table given below shows the number of defective tube lights in different lots.

Lot	Number of defective Tube lights
L1	54
L2	63
L3	47
L4	46
L5	65

What is the average number of defective tube lights per lot?

Options :

- ✓ 55
- ✗ 60
- ✗ 65
- ✗ 70

Question Number : 116 Question Id : 5459279408 Question Type : MCQ Option Shuffling : Yes Display Question Number : Yes Single Line Question Option : No Option Orientation : Vertical

Correct Marks : 1 Wrong Marks : 0.25

नीचे दी गई तालिका विभिन्न लॉटों में खराब ट्यूब लाईटों की संख्या को दर्शाती है।

लॉट	खराब ट्यूब लाईटों की संख्या
L1	54
L2	63
L3	47
L4	46
L5	65

प्रति लॉट खराब ट्यूब लाईटों की औसत संख्या क्या है?

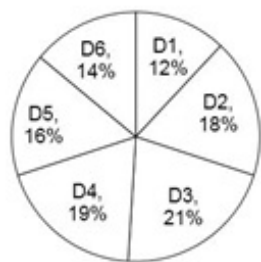
Options :

- ✓ 55
- ✗ 60
- ✗ 65
- ✗ 70

Question Number : 117 Question Id : 5459279409 Question Type : MCQ Option Shuffling : Yes Display Question Number : Yes Single Line Question Option : No Option Orientation : Vertical

Correct Marks : 1 Wrong Marks : 0.25

The pie chart given below shows the number of cars parked in a parking area on different days of a week. The number of cars parked in the parking area on a particular day are shown as a percentage of the total number of cars parked in the parking area.



What is the difference in the central angle formed by sectors for D3 and D5?

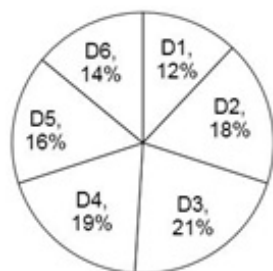
Options :

1. ✘ 12°
2. ✘ 14°
3. ✘ 16°
4. ✔ 18°

Question Number : 117 Question Id : 5459279409 Question Type : MCQ Option Shuffling : Yes Display Question Number : Yes Single Line Question Option : No Option Orientation : Vertical

Correct Marks : 1 Wrong Marks : 0.25

नीचे दिया गया वृत्त चित्र एक हफ्ते के विभिन्न दिनों पर एक पार्किंग क्षेत्र में खड़ी की गयी गाड़ियों की संख्या को दर्शाता है। पार्किंग क्षेत्र में एक विशिष्ट दिन पर खड़ी की गयी गाड़ियों की संख्या को पार्किंग क्षेत्र में खड़ी की गयी गाड़ियों की कुल संख्या के प्रतिशत के रूप में दर्शाया गया है।



D3 तथा D5 के खण्ड द्वारा बनाये गये केंद्रीय कोण में क्या अंतर है?

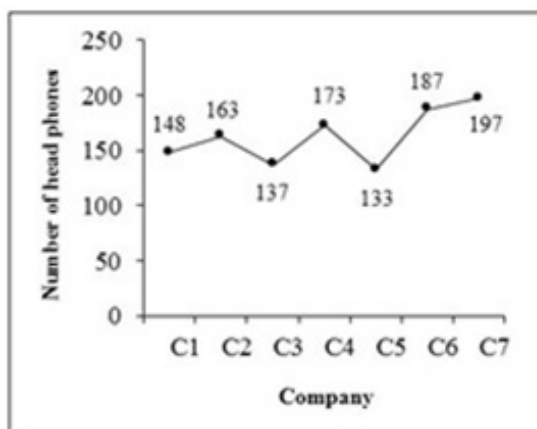
Options :

1. ✘ 12°
2. ✘ 14°
3. ✘ 16°
4. ✔ 18°

Question Number : 118 Question Id : 5459279410 Question Type : MCQ Option Shuffling : Yes Display Question Number : Yes Single Line Question Option : No Option Orientation : Vertical

Correct Marks : 1 Wrong Marks : 0.25

The line graph given below shows the number of head phones of different companies sold by a shopkeeper on a particular day.



What is the average number of head phones sold by the shopkeepers per company?

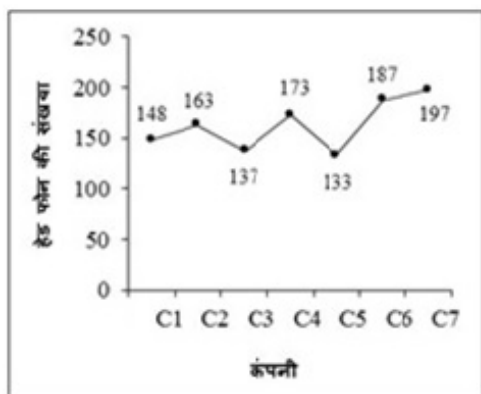
Options :

- ✘ 152.57
- ✔ 162.57
- ✘ 172.57
- ✘ 182.57

Question Number : 118 Question Id : 5459279410 Question Type : MCQ Option Shuffling : Yes Display Question Number : Yes Single Line Question Option : No Option Orientation : Vertical

Correct Marks : 1 Wrong Marks : 0.25

नीचे दिया गया रेखा चित्र एक विशिष्ट दिन पर एक दुकानदार द्वारा बेचे गए विभिन्न कंपनियों के हेड फोन की संख्या को दर्शाता है।



दुकानदार द्वारा बेचे गये प्रति कंपनी हेड फोन की औसत संख्या क्या है?

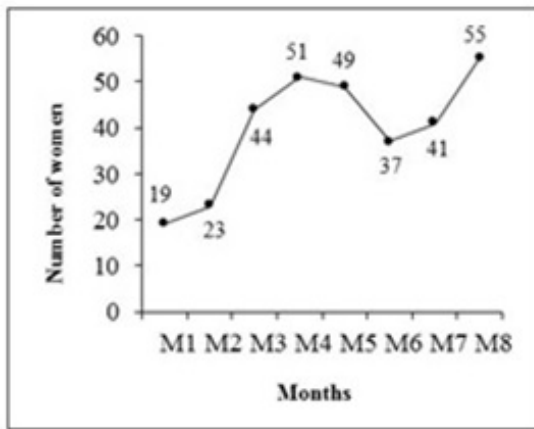
Options :

- ✘ 152.57
- ✔ 162.57
- ✘ 172.57
- ✘ 182.57

Question Number : 119 Question Id : 5459279411 Question Type : MCQ Option Shuffling : Yes Display Question Number : Yes Single Line Question Option : No Option Orientation : Vertical

Correct Marks : 1 Wrong Marks : 0.25

The line graph given below shows the number of women working in the agricultural field in different months.



The number of women working in the agricultural field in month M2 is how much less than the total number of women working in agricultural field in months M5, M6, M7 and M8?

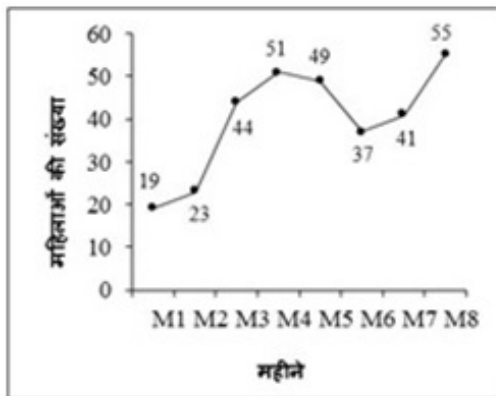
Options :

- ✘ 143
- ✘ 147
- ✔ 159
- ✘ 149

Question Number : 119 Question Id : 5459279411 Question Type : MCQ Option Shuffling : Yes Display Question Number : Yes Single Line Question Option : No Option Orientation : Vertical

Correct Marks : 1 Wrong Marks : 0.25

नीचे दिया गया रेखा चित्र विभिन्न महीनों में एक कृषि क्षेत्र में काम कर रही महिलाओं की संख्या को दर्शाता है।



M2 महीना में कृषि क्षेत्र में काम कर रही महिलाओं की संख्या महीने M5, M6, M7 तथा M8 में कृषि क्षेत्र में काम कर रही महिलाओं की कुल संख्या से कितनी कम है?

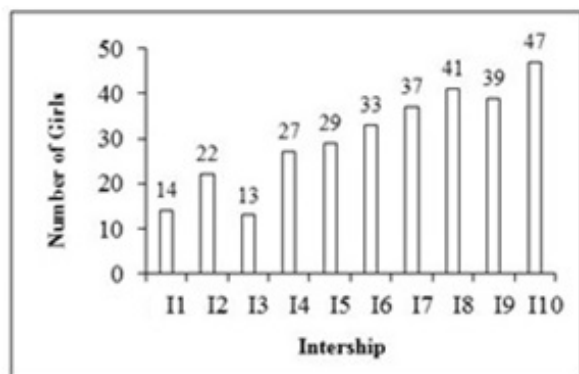
Options :

- ✘ 143
- ✘ 147
- ✔ 159
- ✘ 149

Question Number : 120 Question Id : 5459279412 Question Type : MCQ Option Shuffling : Yes Display Question Number : Yes Single Line Question Option : No Option Orientation : Vertical

Correct Marks : 1 Wrong Marks : 0.25

The bar graph given below shows the number of girls selected for different internships available in an office.



The number of girls selected for the internship I10 is what percentage of the total number of girls selected for the different internships in the office?

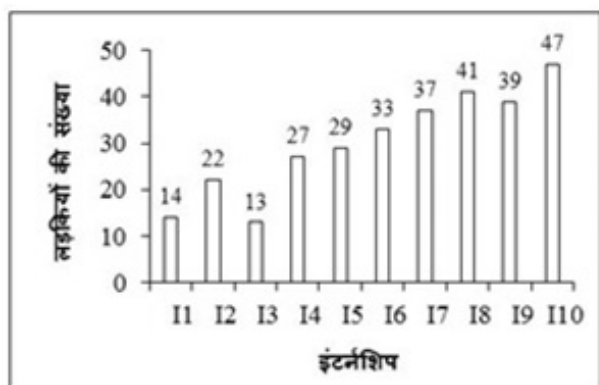
Options :

- ✓ 15.56 percent
- ✗ 20.56 percent
- ✗ 25.56 percent
- ✗ 30.56 percent

Question Number : 120 Question Id : 5459279412 Question Type : MCQ Option Shuffling : Yes Display Question Number : Yes Single Line Question Option : No Option Orientation : Vertical

Correct Marks : 1 Wrong Marks : 0.25

नीचे दिया गया दण्ड चित्र एक ऑफिस में उपलब्ध विभिन्न इंटरनशिप के लिए चुनी गयी लड़कियों की कुल संख्या को दर्शाता है।



I10 इंटरनशिप के लिए चुनी गयी लड़कियाँ, ऑफिस में विभिन्न इंटरनशिप के लिए चुनी गयी कुल लड़कियों की कितनी प्रतिशत है?

Options :

- ✓ 15.56 प्रतिशत
- ✗ 20.56 प्रतिशत
- ✗ 25.56 प्रतिशत
- ✗ 30.56 प्रतिशत

General English 1

Group Number :

7

Group Id :

545927467

Group Maximum Duration :

0

Group Minimum Duration :

0

Revisit allowed for view? :

No

Revisit allowed for edit? :	No
Break time:	0
Group Marks:	20
Revisit allowed for group Instructions? :	Yes
Maximum Instruction Time:	0
Minimum Instruction Time:	0

General English1

Section Id :	545927467
Section Number :	1
Section type :	Online
Mandatory or Optional:	Mandatory
Number of Questions:	20
Number of Questions to be attempted:	20
Section Marks:	20
Display Number Panel:	Yes
Group All Questions:	No

Sub-Section Number:	1
Sub-Section Id:	545927559
Question Shuffling Allowed :	Yes

Question Number : 121 Question Id : 5459279413 Question Type : MCQ Option Shuffling : Yes Display Question Number : Yes
 Single Line Question Option : No Option Orientation : Vertical
 Correct Marks : 1 Wrong Marks : 0.25

Find the part of the given sentence that has an error in it. If there is no error, choose 'No error'.

They are very (1) / proud about (2) / their success (3) / . No error (4)

Options :

1. ✘ 1
2. ✔ 2
3. ✘ 3
4. ✘ 4

Question Number : 121 Question Id : 5459279413 Question Type : MCQ Option Shuffling : Yes Display Question Number : Yes
 Single Line Question Option : No Option Orientation : Vertical
 Correct Marks : 1 Wrong Marks : 0.25

Find the part of the given sentence that has an error in it. If there is no error, choose 'No error'.

They are very (1) / proud about (2) / their success (3) / . No error (4)

Options :

1. ✘ 1
2. ✔ 2
3. ✘ 3
4. ✘ 4

Question Number : 122 Question Id : 5459279414 Question Type : MCQ Option Shuffling : Yes Display Question Number : Yes
 Single Line Question Option : No Option Orientation : Vertical
 Correct Marks : 1 Wrong Marks : 0.25

Find the part of the given sentence that has an error in it. If there is no error, choose 'No error'.

We had to (1) / write the paper (2) / with ink (3) / No error (4)

Options :

1. ✘ 1
2. ✘ 2
3. ✘ 3
4. ✔ 4

Question Number : 122 Question Id : 5459279414 Question Type : MCQ Option Shuffling : Yes Display Question Number : Yes
Single Line Question Option : No Option Orientation : Vertical

Correct Marks : 1 Wrong Marks : 0.25

Find the part of the given sentence that has an error in it. If there is no error, choose 'No error'.

We had to (1) / write the paper (2) / with ink (3) / No error (4)

Options :

1. ✘ 1
2. ✘ 2
3. ✘ 3
4. ✔ 4

Question Number : 123 Question Id : 5459279415 Question Type : MCQ Option Shuffling : Yes Display Question Number : Yes
Single Line Question Option : No Option Orientation : Vertical

Correct Marks : 1 Wrong Marks : 0.25

Find the part of the given sentence that has an error in it. If there is no error, choose 'No error'.

Distribute the mangoes (1) / to the (2) / students (3) / . No error (4)

Options :

1. ✘ 1
2. ✔ 2
3. ✘ 3
4. ✘ 4

Question Number : 123 Question Id : 5459279415 Question Type : MCQ Option Shuffling : Yes Display Question Number : Yes
Single Line Question Option : No Option Orientation : Vertical

Correct Marks : 1 Wrong Marks : 0.25

Find the part of the given sentence that has an error in it. If there is no error, choose 'No error'.

Distribute the mangoes (1) / to the (2) / students (3) / . No error (4)

Options :

1. ✘ 1
2. ✔ 2
3. ✘ 3
4. ✘ 4

Question Number : 124 Question Id : 5459279416 Question Type : MCQ Option Shuffling : Yes Display Question Number : Yes
Single Line Question Option : No Option Orientation : Vertical

Correct Marks : 1 Wrong Marks : 0.25

Find the part of the given sentence that has an error in it. If there is no error, choose 'No error'.

He has been (1) / sleeping since the (2) / last 3 hours (3) / . No error (4)

Options :

1. ✘ 1
2. ✔ 2
3. ✘ 3
4. ✘ 4

Question Number : 124 Question Id : 5459279416 Question Type : MCQ Option Shuffling : Yes Display Question Number : Yes
Single Line Question Option : No Option Orientation : Vertical

Correct Marks : 1 Wrong Marks : 0.25

Find the part of the given sentence that has an error in it. If there is no error, choose 'No error'.

He has been (1) / sleeping since the (2) / last 3 hours (3) /. No error (4)

Options :

1. ✘ 1
2. ✔ 2
3. ✘ 3
4. ✘ 4

Question Number : 125 Question Id : 5459279417 Question Type : MCQ Option Shuffling : Yes Display Question Number : Yes
Single Line Question Option : No Option Orientation : Vertical

Correct Marks : 1 Wrong Marks : 0.25

Find the part of the given sentence that has an error in it. If there is no error, choose 'No error'.

The essay was written (1) / in her (2) / with a fountain pen (3) /. No error (4)

Options :

1. ✘ 1
2. ✔ 2
3. ✘ 3
4. ✘ 4

Question Number : 125 Question Id : 5459279417 Question Type : MCQ Option Shuffling : Yes Display Question Number : Yes
Single Line Question Option : No Option Orientation : Vertical

Correct Marks : 1 Wrong Marks : 0.25

Find the part of the given sentence that has an error in it. If there is no error, choose 'No error'.

The essay was written (1) / in her (2) / with a fountain pen (3) /. No error (4)

Options :

1. ✘ 1
2. ✔ 2
3. ✘ 3
4. ✘ 4

Question Number : 126 Question Id : 5459279418 Question Type : MCQ Option Shuffling : Yes Display Question Number : Yes
Single Line Question Option : No Option Orientation : Vertical

Correct Marks : 1 Wrong Marks : 0.25

Improve the bracketed part of the sentence.

Do not translate word (for) word.

Options :

1. ✘ with

2. ✘ at
3. ✘ in
4. ✔ No Improvement

Question Number : 126 Question Id : 5459279418 Question Type : MCQ Option Shuffling : Yes Display Question Number : Yes
Single Line Question Option : No Option Orientation : Vertical

Correct Marks : 1 Wrong Marks : 0.25

Improve the bracketed part of the sentence.

Do not translate word (for) word.

Options :

1. ✘ with
2. ✘ at
3. ✘ in
4. ✔ No Improvement

Question Number : 127 Question Id : 5459279419 Question Type : MCQ Option Shuffling : Yes Display Question Number : Yes
Single Line Question Option : No Option Orientation : Vertical

Correct Marks : 1 Wrong Marks : 0.25

Improve the bracketed part of the sentence.

We must inquire (about) the matter.

Options :

1. ✘ into
2. ✘ to
3. ✘ for
4. ✔ No Improvement

Question Number : 127 Question Id : 5459279419 Question Type : MCQ Option Shuffling : Yes Display Question Number : Yes
Single Line Question Option : No Option Orientation : Vertical

Correct Marks : 1 Wrong Marks : 0.25

Improve the bracketed part of the sentence.

We must inquire (about) the matter.

Options :

1. ✘ into
2. ✘ to
3. ✘ for
4. ✔ No Improvement

Question Number : 128 Question Id : 5459279420 Question Type : MCQ Option Shuffling : Yes Display Question Number : Yes
Single Line Question Option : No Option Orientation : Vertical

Correct Marks : 1 Wrong Marks : 0.25

Improve the bracketed part of the sentence.

Why is Sita knocking (on) the door.

Options :

1. ✔ at
2. ✘ by
3. ✘ upon

4. ✘ No Improvement

Question Number : 128 Question Id : 5459279420 Question Type : MCQ Option Shuffling : Yes Display Question Number : Yes
Single Line Question Option : No Option Orientation : Vertical

Correct Marks : 1 Wrong Marks : 0.25

Improve the bracketed part of the sentence.

Why is Sita knocking (on) the door.

Options :

1. ✔ at
2. ✘ by
3. ✘ upon
4. ✘ No Improvement

Question Number : 129 Question Id : 5459279421 Question Type : MCQ Option Shuffling : Yes Display Question Number : Yes
Single Line Question Option : No Option Orientation : Vertical

Correct Marks : 1 Wrong Marks : 0.25

Improve the bracketed part of the sentence.

Entering the room, I found the light quite (dazzle).

Options :

1. ✘ dazzles
2. ✔ dazzling
3. ✘ dazzler
4. ✘ No Improvement

Question Number : 129 Question Id : 5459279421 Question Type : MCQ Option Shuffling : Yes Display Question Number : Yes
Single Line Question Option : No Option Orientation : Vertical

Correct Marks : 1 Wrong Marks : 0.25

Improve the bracketed part of the sentence.

Entering the room, I found the light quite (dazzle).

Options :

1. ✘ dazzles
2. ✔ dazzling
3. ✘ dazzler
4. ✘ No Improvement

Question Number : 130 Question Id : 5459279422 Question Type : MCQ Option Shuffling : Yes Display Question Number : Yes
Single Line Question Option : No Option Orientation : Vertical

Correct Marks : 1 Wrong Marks : 0.25

Improve the bracketed part of the sentence.

The time of the singing of birds (have) come.

Options :

1. ✘ is
2. ✘ are
3. ✔ has
4. ✘ No Improvement

Question Number : 130 Question Id : 5459279422 Question Type : MCQ Option Shuffling : Yes Display Question Number : Yes
Single Line Question Option : No Option Orientation : Vertical

Correct Marks : 1 Wrong Marks : 0.25

Improve the bracketed part of the sentence.

The time of the singing of birds (have) come.

Options :

1. ✘ is
2. ✘ are
3. ✔ has
4. ✘ No Improvement

Question Number : 131 Question Id : 5459279423 Question Type : MCQ Option Shuffling : Yes Display Question Number : Yes
Single Line Question Option : No Option Orientation : Vertical

Correct Marks : 1 Wrong Marks : 0.25

A sentence has been given with a blank to be filled with an appropriate word. Choose the correct alternative.

Bread and butter _____ his only food.

Options :

1. ✘ are
2. ✔ is
3. ✘ were
4. ✘ have

Question Number : 131 Question Id : 5459279423 Question Type : MCQ Option Shuffling : Yes Display Question Number : Yes
Single Line Question Option : No Option Orientation : Vertical

Correct Marks : 1 Wrong Marks : 0.25

A sentence has been given with a blank to be filled with an appropriate word. Choose the correct alternative.

Bread and butter _____ his only food.

Options :

1. ✘ are
2. ✔ is
3. ✘ were
4. ✘ have

Question Number : 132 Question Id : 5459279424 Question Type : MCQ Option Shuffling : Yes Display Question Number : Yes
Single Line Question Option : No Option Orientation : Vertical

Correct Marks : 1 Wrong Marks : 0.25

A sentence has been given with a blank to be filled with an appropriate word. Choose the correct alternative.

He asked me what I _____ doing.

Options :

1. ✔ was
2. ✘ were
3. ✘ has
4. ✘ have

Question Number : 132 Question Id : 5459279424 Question Type : MCQ Option Shuffling : Yes Display Question Number : Yes
Single Line Question Option : No Option Orientation : Vertical

Correct Marks : 1 Wrong Marks : 0.25

A sentence has been given with a blank to be filled with an appropriate word. Choose the correct alternative.

He asked me what I _____ doing.

Options :

1. ✓ was
2. ✗ were
3. ✗ has
4. ✗ have

Question Number : 133 Question Id : 5459279425 Question Type : MCQ Option Shuffling : Yes Display Question Number : Yes
Single Line Question Option : No Option Orientation : Vertical

Correct Marks : 1 Wrong Marks : 0.25

A sentence has been given with a blank to be filled with an appropriate word. Choose the correct alternative.

There is something pleasing _____ him.

Options :

1. ✗ else
2. ✗ on
3. ✓ about
4. ✗ to

Question Number : 133 Question Id : 5459279425 Question Type : MCQ Option Shuffling : Yes Display Question Number : Yes
Single Line Question Option : No Option Orientation : Vertical

Correct Marks : 1 Wrong Marks : 0.25

A sentence has been given with a blank to be filled with an appropriate word. Choose the correct alternative.

There is something pleasing _____ him.

Options :

1. ✗ else
2. ✗ on
3. ✓ about
4. ✗ to

Question Number : 134 Question Id : 5459279426 Question Type : MCQ Option Shuffling : Yes Display Question Number : Yes
Single Line Question Option : No Option Orientation : Vertical

Correct Marks : 1 Wrong Marks : 0.25

A sentence has been given with a blank to be filled with an appropriate word. Choose the correct alternative.

She likes the same colour _____ I do.

Options :

1. ✓ as
2. ✗ down
3. ✗ by
4. ✗ also

Question Number : 134 Question Id : 5459279426 Question Type : MCQ Option Shuffling : Yes Display Question Number : Yes
Single Line Question Option : No Option Orientation : Vertical

Correct Marks : 1 Wrong Marks : 0.25

A sentence has been given with a blank to be filled with an appropriate word. Choose the correct alternative.

She likes the same colour _____ I do.

Options :

1. ✓ as
2. ✗ down
3. ✗ by
4. ✗ also

Question Number : 135 Question Id : 5459279427 Question Type : MCQ Option Shuffling : Yes Display Question Number : Yes
Single Line Question Option : No Option Orientation : Vertical

Correct Marks : 1 Wrong Marks : 0.25

A sentence has been given with a blank to be filled with an appropriate word. Choose the correct alternative.

----- spoke in his favour.

Options :

1. ✗ Every
2. ✗ Each
3. ✓ All
4. ✗ As

Question Number : 135 Question Id : 5459279427 Question Type : MCQ Option Shuffling : Yes Display Question Number : Yes
Single Line Question Option : No Option Orientation : Vertical

Correct Marks : 1 Wrong Marks : 0.25

A sentence has been given with a blank to be filled with an appropriate word. Choose the correct alternative.

----- spoke in his favour.

Options :

1. ✗ Every
2. ✗ Each
3. ✓ All
4. ✗ As

Question Number : 136 Question Id : 5459279428 Question Type : MCQ Option Shuffling : Yes Display Question Number : Yes
Single Line Question Option : No Option Orientation : Vertical

Correct Marks : 1 Wrong Marks : 0.25

A sentence has been given with a blank to be filled with an appropriate word. Choose the correct alternative.

The moral law is ----- the civil.

Options :

1. ✗ around
2. ✗ less
3. ✓ above
4. ✗ else

Question Number : 136 Question Id : 5459279428 Question Type : MCQ Option Shuffling : Yes Display Question Number : Yes
Single Line Question Option : No Option Orientation : Vertical

Correct Marks : 1 Wrong Marks : 0.25

A sentence has been given with a blank to be filled with an appropriate word. Choose the correct alternative.

The moral law is ----- the civil.

Options :

1. ✗ around

2. ✘ less
3. ✔ above
4. ✘ else

Question Number : 137 Question Id : 5459279429 Question Type : MCQ Option Shuffling : Yes Display Question Number : Yes
Single Line Question Option : No Option Orientation : Vertical

Correct Marks : 1 Wrong Marks : 0.25

A sentence has been given with a blank to be filled with an appropriate word. Choose the correct alternative.

She came _____ the appointed time.

Options :

1. ✘ any
2. ✔ before
3. ✘ since
4. ✘ enough

Question Number : 137 Question Id : 5459279429 Question Type : MCQ Option Shuffling : Yes Display Question Number : Yes
Single Line Question Option : No Option Orientation : Vertical

Correct Marks : 1 Wrong Marks : 0.25

A sentence has been given with a blank to be filled with an appropriate word. Choose the correct alternative.

She came _____ the appointed time.

Options :

1. ✘ any
2. ✔ before
3. ✘ since
4. ✘ enough

Question Number : 138 Question Id : 5459279430 Question Type : MCQ Option Shuffling : Yes Display Question Number : Yes
Single Line Question Option : No Option Orientation : Vertical

Correct Marks : 1 Wrong Marks : 0.25

A sentence has been given with a blank to be filled with an appropriate word. Choose the correct alternative.

We tried hard, _____ did not succeed.

Options :

1. ✘ also
2. ✘ and
3. ✘ if
4. ✔ but

Question Number : 138 Question Id : 5459279430 Question Type : MCQ Option Shuffling : Yes Display Question Number : Yes
Single Line Question Option : No Option Orientation : Vertical

Correct Marks : 1 Wrong Marks : 0.25

A sentence has been given with a blank to be filled with an appropriate word. Choose the correct alternative.

We tried hard, _____ did not succeed.

Options :

1. ✘ also
2. ✘ and
3. ✘ if

4. ✓ but

Question Number : 139 Question Id : 5459279431 Question Type : MCQ Option Shuffling : Yes Display Question Number : Yes Single Line Question Option : No Option Orientation : Vertical

Correct Marks : 1 Wrong Marks : 0.25

The question below consists of a set of labeled parts of a sentence, Out of the four options given, select the most logical order to form a coherent sentence.

P: us beyond measure
Q: texture and fineness
R: their delicacy of
S: of finish astonished

Options :

1. ✗ PQRS
2. ✗ SRQP
3. ✓ RQSP
4. ✗ RSQP

Question Number : 139 Question Id : 5459279431 Question Type : MCQ Option Shuffling : Yes Display Question Number : Yes Single Line Question Option : No Option Orientation : Vertical

Correct Marks : 1 Wrong Marks : 0.25

The question below consists of a set of labeled parts of a sentence, Out of the four options given, select the most logical order to form a coherent sentence.

P: us beyond measure
Q: texture and fineness
R: their delicacy of
S: of finish astonished

Options :

1. ✗ PQRS
2. ✗ SRQP
3. ✓ RQSP
4. ✗ RSQP

Question Number : 140 Question Id : 5459279432 Question Type : MCQ Option Shuffling : Yes Display Question Number : Yes Single Line Question Option : No Option Orientation : Vertical

Correct Marks : 1 Wrong Marks : 0.25

The question below consists of a set of labeled parts of a sentence, Out of the four options given, select the most logical order to form a coherent sentence.

P: a long and happy married life
Q: the occasion blessed the couple
R: and wished them
S: all the people present on

Options :

1. ✓ SQRP
2. ✗ PQRS
3. ✗ SRQP
4. ✗ SPQR

Question Number : 140 Question Id : 5459279432 Question Type : MCQ Option Shuffling : Yes Display Question Number : Yes Single Line Question Option : No Option Orientation : Vertical

Correct Marks : 1 Wrong Marks : 0.25

The question below consists of a set of labeled parts of a sentence, Out of the four options given, select the most logical order to form a coherent sentence.

P: a long and happy married life
Q: the occasion blessed the couple
R: and wished them
S: all the people present on

Options :

1. ✓ SQRP
2. ✗ PQRS
3. ✗ SRQP
4. ✗ SPQR

General English2

Group Number :	8
Group Id :	545927468
Group Maximum Duration :	0
Group Minimum Duration :	0
Revisit allowed for view? :	No
Revisit allowed for edit? :	No
Break time:	0
Group Marks:	20
Revisit allowed for group Instructions? :	Yes
Maximum Instruction Time:	0
Minimum Instruction Time:	0

General English2

Section Id :	545927468
Section Number :	1
Section type :	Online
Mandatory or Optional:	Mandatory
Number of Questions:	16
Number of Questions to be attempted:	16
Section Marks:	20
Display Number Panel:	Yes
Group All Questions:	No

Sub-Section Number:	1
Sub-Section Id:	545927560
Question Shuffling Allowed :	Yes

Question Number : 141 Question Id : 5459279433 Question Type : MCQ Option Shuffling : Yes Display Question Number : Yes
Single Line Question Option : No Option Orientation : Vertical
Correct Marks : 1 Wrong Marks : 0.25

The question below consists of a set of labeled sentences. Out of the four options given, select the most logical order of the sentences to form a coherent paragraph.

P: and very often prayers bring miraculous results.

Q: it must come from the depth of the heart, not merely from the lips.

R: but the condition is that the prayer should be sincere and genuine.

S: when all human efforts fail, man takes on prayer.

Options :

1. ✓ SPRQ
2. ✗ PRSQ
3. ✗ SQRP
4. ✗ PQRS

Question Number : 141 Question Id : 5459279433 Question Type : MCQ Option Shuffling : Yes Display Question Number : Yes Single Line Question Option : No Option Orientation : Vertical

Correct Marks : 1 Wrong Marks : 0.25

The question below consists of a set of labeled sentences. Out of the four options given, select the most logical order of the sentences to form a coherent paragraph.

P: and very often prayers bring miraculous results.

Q: it must come from the depth of the heart, not merely from the lips.

R: but the condition is that the prayer should be sincere and genuine.

S: when all human efforts fail, man takes on prayer.

Options :

1. ✓ SPRQ
2. ✗ PRSQ
3. ✗ SQRP
4. ✗ PQRS

Question Number : 142 Question Id : 5459279434 Question Type : MCQ Option Shuffling : Yes Display Question Number : Yes Single Line Question Option : No Option Orientation : Vertical

Correct Marks : 1 Wrong Marks : 0.25

Four words are given below out of which only one word is spelled correctly. Select the word with the correct spelling.

Options :

1. ✗ Recomend
2. ✗ Reccomend
3. ✗ Recoomend
4. ✓ Recommend

Question Number : 142 Question Id : 5459279434 Question Type : MCQ Option Shuffling : Yes Display Question Number : Yes Single Line Question Option : No Option Orientation : Vertical

Correct Marks : 1 Wrong Marks : 0.25

Four words are given below out of which only one word is spelled correctly. Select the word with the correct spelling.

Options :

1. ✗ Recomend
2. ✗ Reccomend
3. ✗ Recoomend
4. ✓ Recommend

Question Number : 143 Question Id : 5459279435 Question Type : MCQ Option Shuffling : Yes Display Question Number : Yes
Single Line Question Option : No Option Orientation : Vertical

Correct Marks : 1 Wrong Marks : 0.25

Four words are given below out of which only one word is spelled correctly. Select the word with the correct spelling.

Options :

1. ✓ Privilege
2. ✗ Previlige
3. ✗ Previlidge
4. ✗ Previlige

Question Number : 143 Question Id : 5459279435 Question Type : MCQ Option Shuffling : Yes Display Question Number : Yes
Single Line Question Option : No Option Orientation : Vertical

Correct Marks : 1 Wrong Marks : 0.25

Four words are given below out of which only one word is spelled correctly. Select the word with the correct spelling.

Options :

1. ✓ Privilege
2. ✗ Previlige
3. ✗ Previlidge
4. ✗ Previlige

Question Number : 144 Question Id : 5459279436 Question Type : MCQ Option Shuffling : Yes Display Question Number : Yes
Single Line Question Option : No Option Orientation : Vertical

Correct Marks : 1 Wrong Marks : 0.25

Four words are given below out of which only one word is spelled correctly. Select the word with the correct spelling.

Options :

1. ✗ Soopercede
2. ✗ Supercede
3. ✓ Supersede
4. ✗ Superseed

Question Number : 144 Question Id : 5459279436 Question Type : MCQ Option Shuffling : Yes Display Question Number : Yes
Single Line Question Option : No Option Orientation : Vertical

Correct Marks : 1 Wrong Marks : 0.25

Four words are given below out of which only one word is spelled correctly. Select the word with the correct spelling.

Options :

1. ✗ Soopercede
2. ✗ Supercede
3. ✓ Supersede
4. ✗ Superseed

Question Number : 145 Question Id : 5459279437 Question Type : MCQ Option Shuffling : Yes Display Question Number : Yes
Single Line Question Option : No Option Orientation : Vertical

Correct Marks : 1 Wrong Marks : 0.25

Choose the word that is opposite in meaning to the given word.

Bore

Options :

1. ✓ Charmer
2. ✗ Creep
3. ✗ Pain
4. ✗ Compromise

Question Number : 145 Question Id : 5459279437 Question Type : MCQ Option Shuffling : Yes Display Question Number : Yes
Single Line Question Option : No Option Orientation : Vertical

Correct Marks : 1 Wrong Marks : 0.25

Choose the word that is opposite in meaning to the given word.

Bore

Options :

1. ✓ Charmer
2. ✗ Creep
3. ✗ Pain
4. ✗ Compromise

Question Number : 146 Question Id : 5459279438 Question Type : MCQ Option Shuffling : Yes Display Question Number : Yes
Single Line Question Option : No Option Orientation : Vertical

Correct Marks : 1 Wrong Marks : 0.25

Choose the word that means the same as the given word.

Optimistic

Options :

1. ✗ Pessimistic
2. ✓ Bright
3. ✗ Nagger
4. ✗ Offensive

Question Number : 146 Question Id : 5459279438 Question Type : MCQ Option Shuffling : Yes Display Question Number : Yes
Single Line Question Option : No Option Orientation : Vertical

Correct Marks : 1 Wrong Marks : 0.25

Choose the word that means the same as the given word.

Optimistic

Options :

1. ✗ Pessimistic
2. ✓ Bright
3. ✗ Nagger
4. ✗ Offensive

Question Number : 147 Question Id : 5459279439 Question Type : MCQ Option Shuffling : Yes Display Question Number : Yes
Single Line Question Option : No Option Orientation : Vertical

Correct Marks : 1 Wrong Marks : 0.25

Choose the word that is opposite in meaning to the given word.

Inept

Options :

1. ✗ Unskilled
2. ✗ Incompetent

3. ✓ Competent
4. ✗ Perfectionist

Question Number : 147 Question Id : 5459279439 Question Type : MCQ Option Shuffling : Yes Display Question Number : Yes
Single Line Question Option : No Option Orientation : Vertical

Correct Marks : 1 Wrong Marks : 0.25

Choose the word that is opposite in meaning to the given word.

Inept

Options :

1. ✗ Unskilled
2. ✗ Incompetent
3. ✓ Competent
4. ✗ Perfectionist

Question Number : 148 Question Id : 5459279440 Question Type : MCQ Option Shuffling : Yes Display Question Number : Yes
Single Line Question Option : No Option Orientation : Vertical

Correct Marks : 1 Wrong Marks : 0.25

Choose the word that means the same as the given word.

Crucial

Options :

1. ✓ Vital
2. ✗ Unimportant
3. ✗ Avoidable
4. ✗ Central

Question Number : 148 Question Id : 5459279440 Question Type : MCQ Option Shuffling : Yes Display Question Number : Yes
Single Line Question Option : No Option Orientation : Vertical

Correct Marks : 1 Wrong Marks : 0.25

Choose the word that means the same as the given word.

Crucial

Options :

1. ✓ Vital
2. ✗ Unimportant
3. ✗ Avoidable
4. ✗ Central

Question Number : 149 Question Id : 5459279441 Question Type : MCQ Option Shuffling : Yes Display Question Number : Yes
Single Line Question Option : No Option Orientation : Vertical

Correct Marks : 1 Wrong Marks : 0.25

Choose the word that is opposite in meaning to the given word.

Soothe

Options :

1. ✗ Relieve
2. ✗ Ease
3. ✗ Simplify
4. ✓ Aggravate

Question Number : 149 Question Id : 5459279441 Question Type : MCQ Option Shuffling : Yes Display Question Number : Yes
Single Line Question Option : No Option Orientation : Vertical

Correct Marks : 1 Wrong Marks : 0.25

Choose the word that is opposite in meaning to the given word.

Soothe

Options :

1. ✘ Relieve
2. ✘ Ease
3. ✘ Simplify
4. ✔ Aggravate

Question Number : 150 Question Id : 5459279442 Question Type : MCQ Option Shuffling : Yes Display Question Number : Yes
Single Line Question Option : No Option Orientation : Vertical

Correct Marks : 1 Wrong Marks : 0.25

In the following question, out of the given four alternatives, select the alternative which best expresses the meaning of the idiom/phrase.

To be on cloud nine

Options :

1. ✔ To feel overly happy and joyful
2. ✘ An important characteristic
3. ✘ To blunder
4. ✘ Under pressure

Question Number : 150 Question Id : 5459279442 Question Type : MCQ Option Shuffling : Yes Display Question Number : Yes
Single Line Question Option : No Option Orientation : Vertical

Correct Marks : 1 Wrong Marks : 0.25

In the following question, out of the given four alternatives, select the alternative which best expresses the meaning of the idiom/phrase.

To be on cloud nine

Options :

1. ✔ To feel overly happy and joyful
2. ✘ An important characteristic
3. ✘ To blunder
4. ✘ Under pressure

Question Number : 151 Question Id : 5459279443 Question Type : MCQ Option Shuffling : Yes Display Question Number : Yes
Single Line Question Option : No Option Orientation : Vertical

Correct Marks : 1 Wrong Marks : 0.25

In the following question, out of the given four alternatives, select the alternative which best expresses the meaning of the idiom/phrase.

A golden opportunity

Options :

1. ✘ To look gloomy
2. ✘ Foolish ambition
3. ✔ Very favourable opportunity or chance
4. ✘ To be enraged

Question Number : 151 Question Id : 5459279443 Question Type : MCQ Option Shuffling : Yes Display Question Number : Yes
Single Line Question Option : No Option Orientation : Vertical

Correct Marks : 1 Wrong Marks : 0.25

In the following question, out of the given four alternatives, select the alternative which best expresses the meaning of the idiom/phrase.

A golden opportunity

Options :

1. ✘ To look gloomy
2. ✘ Foolish ambition
3. ✔ Very favourable opportunity or chance
4. ✘ To be enraged

Question Number : 152 Question Id : 5459279444 Question Type : MCQ Option Shuffling : Yes Display Question Number : Yes
Single Line Question Option : No Option Orientation : Vertical

Correct Marks : 1 Wrong Marks : 0.25

In the following question, out of the given four alternatives, select the alternative which best expresses the meaning of the idiom/phrase.

To lick the dust

Options :

1. ✘ Popular
2. ✘ Very clumsy
3. ✘ Just in time
4. ✔ To accept defeat

Question Number : 152 Question Id : 5459279444 Question Type : MCQ Option Shuffling : Yes Display Question Number : Yes
Single Line Question Option : No Option Orientation : Vertical

Correct Marks : 1 Wrong Marks : 0.25

In the following question, out of the given four alternatives, select the alternative which best expresses the meaning of the idiom/phrase.

To lick the dust

Options :

1. ✘ Popular
2. ✘ Very clumsy
3. ✘ Just in time
4. ✔ To accept defeat

Question Number : 153 Question Id : 5459279445 Question Type : MCQ Option Shuffling : Yes Display Question Number : Yes
Single Line Question Option : No Option Orientation : Vertical

Correct Marks : 1 Wrong Marks : 0.25

Choose the word that can substitute the given sentence.

One who is present everywhere

Options :

1. ✘ Optimistic
2. ✔ Omnipresent
3. ✘ Omniscient
4. ✘ Omnipotent

Question Number : 153 Question Id : 5459279445 Question Type : MCQ Option Shuffling : Yes Display Question Number : Yes
Single Line Question Option : No Option Orientation : Vertical

Correct Marks : 1 Wrong Marks : 0.25

Choose the word that can substitute the given sentence.

One who is present everywhere

Options :

1. ✘ Optimistic
2. ✔ Omnipresent
3. ✘ Omniscient
4. ✘ Omnipotent

Question Number : 154 Question Id : 5459279446 Question Type : MCQ Option Shuffling : Yes Display Question Number : Yes
Single Line Question Option : No Option Orientation : Vertical

Correct Marks : 1 Wrong Marks : 0.25

Choose the word that can substitute the given sentence.

A government by the people

Options :

1. ✘ Monarchy
2. ✘ Plutocracy
3. ✘ Oligarchy
4. ✔ Democracy

Question Number : 154 Question Id : 5459279446 Question Type : MCQ Option Shuffling : Yes Display Question Number : Yes
Single Line Question Option : No Option Orientation : Vertical

Correct Marks : 1 Wrong Marks : 0.25

Choose the word that can substitute the given sentence.

A government by the people

Options :

1. ✘ Monarchy
2. ✘ Plutocracy
3. ✘ Oligarchy
4. ✔ Democracy

Question Number : 155 Question Id : 5459279447 Question Type : MCQ Option Shuffling : Yes Display Question Number : Yes
Single Line Question Option : No Option Orientation : Vertical

Correct Marks : 1 Wrong Marks : 0.25

Choose the word that can substitute the given sentence.

Incapable of being corrected

Options :

1. ✔ Incurable
2. ✘ Inaudible
3. ✘ Inevitable
4. ✘ Irreparable

Question Number : 155 Question Id : 5459279447 Question Type : MCQ Option Shuffling : Yes Display Question Number : Yes
Single Line Question Option : No Option Orientation : Vertical

Correct Marks : 1 Wrong Marks : 0.25

Choose the word that can substitute the given sentence.

Incapable of being corrected

Options :

1. ✓ Incorrigible
2. ✗ Inaudible
3. ✗ Inevitable
4. ✗ Irreparable

Sub-Section Number:	2
Sub-Section Id:	545927561
Question Shuffling Allowed :	Yes

Question Id : 5459279448 Question Type : COMPREHENSION Sub Question Shuffling Allowed : Yes Group Comprehension Questions : No

Question Numbers : (156 to 160)

Question Label : Comprehension

Read the following information carefully and answer the given questions.

Martial arts were largely unknown to the Western world until after 1945, when a few American and British veterans of World War II brought back Japanese martial arts from occupied Japan. During the 1970s, there was a surge of interest in martial arts in America, due to several popular television shows and the charismatic actor Bruce Lee. With better communication and less secrecy among teachers, Chinese martial arts, including t'ai chi and qigong, have made their way to America. Today, there are martial arts schools all across America, and martial arts are a multi-billion dollar industry. Martial arts are a popular activity for self-defense, sport, exercise, spirituality, and health around the world. Present-day forms of martial arts include kalaripayattu in southern India, escrima in the Philippines, pentjak silatin Malaysia, karate in Okinawa, aikido in Japan, and capoeira in Brazil. Many martial arts utilise basic concepts of traditional Chinese philosophy. Qi is the fundamental life energy of the universe. In the body, qi is the invisible vital force that sustains life. Martial arts involve intellectual concepts, as well as physical techniques and, have been influenced by many of the religious and philosophical systems of the East. The concepts of yin and yang are also central to the martial arts. Yin and yang are the two separate but complimentary principles of the universe, which are always interacting, opposing, and influencing each other. Yin is associated with such qualities as cold, passivity, darkness, yielding, and inward movement. Yang is associated with heat, activity, light, assertiveness, outward movement, and so on. In martial arts, yin and yang movements are used to balance each other.

Sub questions

Question Number : 156 Question Id : 5459279449 Question Type : MCQ Option Shuffling : Yes Display Question Number : Yes Single Line Question Option : No Option Orientation : Vertical

Correct Marks : 1 Wrong Marks : 0.25

What has been the influencing factor in Martial Arts?

Options :

1. ✓ Religion and philosophy of the East
2. ✗ Better communication among teachers
3. ✗ Popularity of Bruce Lee
4. ✗ Balance of Life

Question Number : 157 Question Id : 5459279450 Question Type : MCQ Option Shuffling : Yes Display Question Number : Yes Single Line Question Option : No Option Orientation : Vertical

Correct Marks : 1 Wrong Marks : 0.25

Choose the word that is opposite in meaning to the given word.

Complimentary

Options :

1. ✘ Courtly
2. ✘ Influencing
3. ✘ Honoring
4. ✔ Disparaging

Question Number : 158 Question Id : 5459279451 Question Type : MCQ Option Shuffling : Yes Display Question Number : Yes
Single Line Question Option : No Option Orientation : Vertical

Correct Marks : 1 Wrong Marks : 0.25

How is Qi described in the above paragraph?

Options :

1. ✘ Two separate but complimentary principles of the universe.
2. ✘ A popular activity for self-defense, sport, exercise, spirituality, and health.
3. ✔ Fundamental life energy of the universe.
4. ✘ Basic concept of traditional Chinese philosophy.

Question Number : 159 Question Id : 5459279452 Question Type : MCQ Option Shuffling : Yes Display Question Number : Yes
Single Line Question Option : No Option Orientation : Vertical

Correct Marks : 1 Wrong Marks : 0.25

Select the pair of words that best describe Yin-Yang.

Options :

1. ✘ Intellectual-Physical
2. ✔ Yielding-Assertive
3. ✘ Active-Passive
4. ✘ Religious-Philosophical

Question Number : 160 Question Id : 5459279453 Question Type : MCQ Option Shuffling : Yes Display Question Number : Yes
Single Line Question Option : No Option Orientation : Vertical

Correct Marks : 1 Wrong Marks : 0.25

The passage thematically centers on:

Options :

1. ✘ Unity of mind, body and soul through martial arts
2. ✘ Qi as a life sustaining force
3. ✔ Origin of martial arts and its concepts
4. ✘ Basic intellectual concepts of Eastern philosophy

Question Id : 5459279448 Question Type : COMPREHENSION Sub Question Shuffling Allowed : Yes Group Comprehension
Questions : No

Question Numbers : (156 to 160)

Question Label : Comprehension

Read the following information carefully and answer the given questions.

Martial arts were largely unknown to the Western world until after 1945, when a few American and British veterans of World War II brought back Japanese martial arts from occupied Japan. During the 1970s, there was a surge of interest in martial arts in America, due to several popular television shows and the charismatic actor Bruce Lee. With better communication and less secrecy among teachers, Chinese martial arts, including t'ai chi and qigong, have made their way to America. Today, there are martial arts schools all across America, and martial arts are a multi-billion dollar industry. Martial arts are a popular activity for self-defense, sport, exercise, spirituality, and health around the world. Present-day forms of martial arts include kalaripayattu in southern India, escrima in the Philippines, pentjak silatin Malaysia, karate in Okinawa, aikido in Japan, and capoeira in Brazil. Many martial arts utilise basic concepts of traditional Chinese philosophy. Qi is the fundamental life energy of the universe. In the body, qi is the invisible vital force that sustains life. Martial arts involve intellectual concepts, as well as physical techniques and, have been influenced by many of the religious and philosophical systems of the East. The concepts of yin and yang are also central to the martial arts. Yin and yang are the two separate but complimentary principles of the universe, which are always interacting, opposing, and influencing each other. Yin is associated with such qualities as cold, passivity, darkness, yielding, and inward movement. Yang is associated with heat, activity, light, assertiveness, outward movement, and so on. In martial arts, yin and yang movements are used to balance each other.

Sub questions

Question Number : 156 Question Id : 5459279449 Question Type : MCQ Option Shuffling : Yes Display Question Number : Yes
Single Line Question Option : No Option Orientation : Vertical

Correct Marks : 1 Wrong Marks : 0.25

What has been the influencing factor in Martial Arts?

Options :

- ✓ Religion and philosophy of the East
- ✗ Better communication among teachers
- ✗ Popularity of Bruce Lee
- ✗ Balance of Life

Question Number : 157 Question Id : 5459279450 Question Type : MCQ Option Shuffling : Yes Display Question Number : Yes
Single Line Question Option : No Option Orientation : Vertical

Correct Marks : 1 Wrong Marks : 0.25

Choose the word that is opposite in meaning to the given word.

Complimentary

Options :

- ✗ Courtly
- ✗ Influencing
- ✗ Honoring
- ✓ Disparaging

Question Number : 158 Question Id : 5459279451 Question Type : MCQ Option Shuffling : Yes Display Question Number : Yes
Single Line Question Option : No Option Orientation : Vertical

Correct Marks : 1 Wrong Marks : 0.25

How is Qi described in the above paragraph?

Options :

- ✗ Two separate but complimentary principles of the universe.
- ✗ A popular activity for self-defense, sport, exercise, spirituality, and health.
- ✓ Fundamental life energy of the universe.
- ✗ Basic concept of traditional Chinese philosophy.

Question Number : 159 Question Id : 5459279452 Question Type : MCQ Option Shuffling : Yes Display Question Number : Yes
Single Line Question Option : No Option Orientation : Vertical

Correct Marks : 1 Wrong Marks : 0.25

Select the pair of words that best describe Yin-Yang.

Options :

1. ✘ Intellectual-Physical
2. ✔ Yielding-Assertive
3. ✘ Active-Passive
4. ✘ Religious-Philosophical

Question Number : 160 Question Id : 5459279453 Question Type : MCQ Option Shuffling : Yes Display Question Number : Yes
Single Line Question Option : No Option Orientation : Vertical

Correct Marks : 1 Wrong Marks : 0.25

The passage thematically centers on:

Options :

1. ✘ Unity of mind, body and soul through martial arts
2. ✘ Qi as a life sustaining force
3. ✔ Origin of martial arts and its concepts
4. ✘ Basic intellectual concepts of Eastern philosophy

General Hindi 1

Group Number :	9
Group Id :	545927469
Group Maximum Duration :	0
Group Minimum Duration :	0
Revisit allowed for view? :	No
Revisit allowed for edit? :	No
Break time:	0
Group Marks:	20
Revisit allowed for group Instructions? :	Yes
Maximum Instruction Time:	0
Minimum Instruction Time:	0

General Hindi 1

Section Id :	545927469
Section Number :	1
Section type :	Online
Mandatory or Optional:	Mandatory
Number of Questions:	20
Number of Questions to be attempted:	20
Section Marks:	20
Display Number Panel:	Yes
Group All Questions:	No

Sub-Section Number:	1
Sub-Section Id:	545927562
Question Shuffling Allowed :	Yes

Question Number : 161 Question Id : 5459279454 Question Type : MCQ Option Shuffling : Yes Display Question Number : Yes
Single Line Question Option : No Option Orientation : Vertical

Correct Marks : 1 Wrong Marks : 0.25

दिए गए शब्दों की संधि ज्ञात कीजिए।

गौ + अन

Options :

1. ✘ गायन
2. ✔ गौण
3. ✘ गौन
4. ✘ गौअन

Question Number : 161 Question Id : 5459279454 Question Type : MCQ Option Shuffling : Yes Display Question Number : Yes
Single Line Question Option : No Option Orientation : Vertical

Correct Marks : 1 Wrong Marks : 0.25

दिए गए शब्दों की संधि ज्ञात कीजिए।

गौ + अन

Options :

1. ✘ गायन
2. ✔ गौण
3. ✘ गौन
4. ✘ गौअन

Question Number : 162 Question Id : 5459279455 Question Type : MCQ Option Shuffling : Yes Display Question Number : Yes
Single Line Question Option : No Option Orientation : Vertical

Correct Marks : 1 Wrong Marks : 0.25

निम्नलिखित में से कौन सा उदाहरण संयुक्त क्रिया का है?

Options :

1. ✔ मोहित, माँ बुला रही है
2. ✘ रानी कपड़े सुखाती है
3. ✘ बालक सो रहा है
4. ✘ श्यामा हँस रही है

Question Number : 162 Question Id : 5459279455 Question Type : MCQ Option Shuffling : Yes Display Question Number : Yes
Single Line Question Option : No Option Orientation : Vertical

Correct Marks : 1 Wrong Marks : 0.25

निम्नलिखित में से कौन सा उदाहरण संयुक्त क्रिया का है?

Options :

1. ✔ मोहित, माँ बुला रही है
2. ✘ रानी कपड़े सुखाती है
3. ✘ बालक सो रहा है
4. ✘ श्यामा हँस रही है

Question Number : 163 Question Id : 5459279456 Question Type : MCQ Option Shuffling : Yes Display Question Number : Yes
Single Line Question Option : No Option Orientation : Vertical

Correct Marks : 1 Wrong Marks : 0.25

दिए गए वाक्य में रिक्त स्थान की पूर्ति कीजिए।

----- यह सड़क है या कूड़े का ढेरा

Options :

1. ✘ हे राम

2. ✓ लिः
3. ✗ अच्छा
4. ✗ बहुत खूब

Question Number : 163 Question Id : 5459279456 Question Type : MCQ Option Shuffling : Yes Display Question Number : Yes
Single Line Question Option : No Option Orientation : Vertical

Correct Marks : 1 Wrong Marks : 0.25

दिए गए वाक्य में रिक्त स्थान की पूर्ति कीजिए।

----- यह सड़क है या कूड़े का ढेरा

Options :

1. ✗ हे राम
2. ✓ लिः
3. ✗ अच्छा
4. ✗ बहुत खूब

Question Number : 164 Question Id : 5459279457 Question Type : MCQ Option Shuffling : Yes Display Question Number : Yes
Single Line Question Option : No Option Orientation : Vertical

Correct Marks : 1 Wrong Marks : 0.25

दिए गए शब्द का समास ज्ञात कीजिए।

देवसेवा

Options :

1. ✓ तत्पुरुष
2. ✗ द्वंद्व
3. ✗ बहुव्रीहि
4. ✗ द्विगु

Question Number : 164 Question Id : 5459279457 Question Type : MCQ Option Shuffling : Yes Display Question Number : Yes
Single Line Question Option : No Option Orientation : Vertical

Correct Marks : 1 Wrong Marks : 0.25

दिए गए शब्द का समास ज्ञात कीजिए।

देवसेवा

Options :

1. ✓ तत्पुरुष
2. ✗ द्वंद्व
3. ✗ बहुव्रीहि
4. ✗ द्विगु

Question Number : 165 Question Id : 5459279458 Question Type : MCQ Option Shuffling : Yes Display Question Number : Yes
Single Line Question Option : No Option Orientation : Vertical

Correct Marks : 1 Wrong Marks : 0.25

दिए गए वाक्य में रेखांकित भाग किस प्रकार का सर्वनाम है ज्ञात कीजिए।

हमें यह मैच जीतना ही है।

Options :

1. ✓ पुरुषवाचक
2. ✗ अनिश्चयवाचक
3. ✗ निश्चयवाचक

4. ✘ प्रश्नवाचक

Question Number : 165 Question Id : 5459279458 Question Type : MCQ Option Shuffling : Yes Display Question Number : Yes
Single Line Question Option : No Option Orientation : Vertical

Correct Marks : 1 Wrong Marks : 0.25

दिए गए वाक्य में रेखांकित भाग किस प्रकार का सर्वनाम है ज्ञात कीजिए।

हमें यह मैच जीतना ही है।

Options :

1. ✔ पुरुषवाचक
2. ✘ अनिश्चयवाचक
3. ✘ निश्चयवाचक
4. ✘ प्रश्नवाचक

Question Number : 166 Question Id : 5459279459 Question Type : MCQ Option Shuffling : Yes Display Question Number : Yes
Single Line Question Option : No Option Orientation : Vertical

Correct Marks : 1 Wrong Marks : 0.25

दिए गए शब्द युग्म का अर्थ ज्ञात कीजिए।

बहु - बहू

Options :

1. ✘ रहस्य - अधिक
2. ✘ बहुत - बेटी
3. ✘ अधिक - रहस्य
4. ✔ बहुत - बहू

Question Number : 166 Question Id : 5459279459 Question Type : MCQ Option Shuffling : Yes Display Question Number : Yes
Single Line Question Option : No Option Orientation : Vertical

Correct Marks : 1 Wrong Marks : 0.25

दिए गए शब्द युग्म का अर्थ ज्ञात कीजिए।

बहु - बहू

Options :

1. ✘ रहस्य - अधिक
2. ✘ बहुत - बेटी
3. ✘ अधिक - रहस्य
4. ✔ बहुत - बहू

Question Number : 167 Question Id : 5459279460 Question Type : MCQ Option Shuffling : Yes Display Question Number : Yes
Single Line Question Option : No Option Orientation : Vertical

Correct Marks : 1 Wrong Marks : 0.25

दिए गए वाक्यांश के लिए उचित शब्द का चयन कीजिए।

जो कहा न गया हो।

Options :

1. ✔ अकथित
2. ✘ नकहा
3. ✘ अकहा
4. ✘ बेकहा

Question Number : 167 Question Id : 5459279460 Question Type : MCQ Option Shuffling : Yes Display Question Number : Yes
Single Line Question Option : No Option Orientation : Vertical

Correct Marks : 1 Wrong Marks : 0.25

दिए गए वाक्यांश के लिए उचित शब्द का चयन कीजिए।

जो कहा न गया हो।

Options :

1. ✓ अकथित
2. ✗ नकहा
3. ✗ अकहा
4. ✗ बेकहा

Question Number : 168 Question Id : 5459279461 Question Type : MCQ Option Shuffling : Yes Display Question Number : Yes
Single Line Question Option : No Option Orientation : Vertical

Correct Marks : 1 Wrong Marks : 0.25

दिए गए शब्द का विलोम शब्द ज्ञात कीजिए।

चितरंजन

Options :

1. ✗ नाशवान
2. ✓ नश्चर
3. ✗ फूल
4. ✗ मनरंजन

Question Number : 168 Question Id : 5459279461 Question Type : MCQ Option Shuffling : Yes Display Question Number : Yes
Single Line Question Option : No Option Orientation : Vertical

Correct Marks : 1 Wrong Marks : 0.25

दिए गए शब्द का विलोम शब्द ज्ञात कीजिए।

चितरंजन

Options :

1. ✗ नाशवान
2. ✓ नश्चर
3. ✗ फूल
4. ✗ मनरंजन

Question Number : 169 Question Id : 5459279462 Question Type : MCQ Option Shuffling : Yes Display Question Number : Yes
Single Line Question Option : No Option Orientation : Vertical

Correct Marks : 1 Wrong Marks : 0.25

दिए गए शब्द का पर्यायवाची ज्ञात कीजिए।

वाम

Options :

1. ✓ दक्षिण
2. ✗ हवा
3. ✗ उत्तर
4. ✗ बाम

Question Number : 169 Question Id : 5459279462 Question Type : MCQ Option Shuffling : Yes Display Question Number : Yes
Single Line Question Option : No Option Orientation : Vertical

Correct Marks : 1 Wrong Marks : 0.25

दिए गए शब्द का पर्यायवाची ज्ञात कीजिए।

वाम

Options :

1. ✓ दक्षिण
2. ✗ हवा
3. ✗ उत्तर
4. ✗ बाम

Question Number : 170 Question Id : 5459279463 Question Type : MCQ Option Shuffling : Yes Display Question Number : Yes
Single Line Question Option : No Option Orientation : Vertical

Correct Marks : 1 Wrong Marks : 0.25

दिए गए शब्दों में से शुद्ध वर्तनी का चयन कीजिए।

Options :

1. ✓ वीणापाणि
2. ✗ विनापानी
3. ✗ विनापाणि
4. ✗ विणापाणि

Question Number : 170 Question Id : 5459279463 Question Type : MCQ Option Shuffling : Yes Display Question Number : Yes
Single Line Question Option : No Option Orientation : Vertical

Correct Marks : 1 Wrong Marks : 0.25

दिए गए शब्दों में से शुद्ध वर्तनी का चयन कीजिए।

Options :

1. ✓ वीणापाणि
2. ✗ विनापानी
3. ✗ विनापाणि
4. ✗ विणापाणि

Question Number : 171 Question Id : 5459279464 Question Type : MCQ Option Shuffling : Yes Display Question Number : Yes
Single Line Question Option : No Option Orientation : Vertical

Correct Marks : 1 Wrong Marks : 0.25

दिए गए वाक्य में रिक्त स्थान की पूर्ति कीजिए।

तालाब के _____ मछलियाँ तैर रही हैं।

Options :

1. ✗ पीछे
2. ✓ अंदर
3. ✗ ऊपर
4. ✗ आगे

Question Number : 171 Question Id : 5459279464 Question Type : MCQ Option Shuffling : Yes Display Question Number : Yes
Single Line Question Option : No Option Orientation : Vertical

Correct Marks : 1 Wrong Marks : 0.25

दिए गए वाक्य में रिक्त स्थान की पूर्ति कीजिए।

तालाब के _____ मछलियाँ तैर रही हैं।

Options :

1. ✗ पीछे
2. ✓ अंदर

3. ✘ ऊपर
4. ✘ आगे

Question Number : 172 Question Id : 5459279465 Question Type : MCQ Option Shuffling : Yes Display Question Number : Yes
Single Line Question Option : No Option Orientation : Vertical

Correct Marks : 1 Wrong Marks : 0.25

दिए गए वाक्यांश के लिए उचित शब्द का चयन कीजिए।

जिसका पेट लंबा हो।

Options :

1. ✔ लंबोदर
2. ✘ लम्बू
3. ✘ पेटू
4. ✘ लम्बपेट

Question Number : 172 Question Id : 5459279465 Question Type : MCQ Option Shuffling : Yes Display Question Number : Yes
Single Line Question Option : No Option Orientation : Vertical

Correct Marks : 1 Wrong Marks : 0.25

दिए गए वाक्यांश के लिए उचित शब्द का चयन कीजिए।

जिसका पेट लंबा हो।

Options :

1. ✔ लंबोदर
2. ✘ लम्बू
3. ✘ पेटू
4. ✘ लम्बपेट

Question Number : 173 Question Id : 5459279466 Question Type : MCQ Option Shuffling : Yes Display Question Number : Yes
Single Line Question Option : No Option Orientation : Vertical

Correct Marks : 1 Wrong Marks : 0.25

दिए गए शब्द का पर्यायवाची ज्ञात कीजिए।

मोक्ष

Options :

1. ✘ निर्वाण
2. ✘ विदुम
3. ✔ परधाम
4. ✘ शर्वरी

Question Number : 173 Question Id : 5459279466 Question Type : MCQ Option Shuffling : Yes Display Question Number : Yes
Single Line Question Option : No Option Orientation : Vertical

Correct Marks : 1 Wrong Marks : 0.25

दिए गए शब्द का पर्यायवाची ज्ञात कीजिए।

मोक्ष

Options :

1. ✘ निर्वाण
2. ✘ विदुम
3. ✔ परधाम
4. ✘ शर्वरी

Question Number : 174 Question Id : 5459279467 Question Type : MCQ Option Shuffling : Yes Display Question Number : Yes
Single Line Question Option : No Option Orientation : Vertical

Correct Marks : 1 Wrong Marks : 0.25

दिए गए शब्दों में से शुद्ध वर्तनी का चयन कीजिए।

Options :

1. ✘ नराज
2. ✘ नारज
3. ✔ नाराज
4. ✘ नर्ज

Question Number : 174 Question Id : 5459279467 Question Type : MCQ Option Shuffling : Yes Display Question Number : Yes
Single Line Question Option : No Option Orientation : Vertical

Correct Marks : 1 Wrong Marks : 0.25

दिए गए शब्दों में से शुद्ध वर्तनी का चयन कीजिए।

Options :

1. ✘ नराज
2. ✘ नारज
3. ✔ नाराज
4. ✘ नर्ज

Question Number : 175 Question Id : 5459279468 Question Type : MCQ Option Shuffling : Yes Display Question Number : Yes
Single Line Question Option : No Option Orientation : Vertical

Correct Marks : 1 Wrong Marks : 0.25

दिए गए वाक्यांश के लिए उचित शब्द का चयन कीजिए।

मन को लुभाने वाली वस्तु

Options :

1. ✘ चारू
2. ✘ रुचिर
3. ✘ रुचिकर
4. ✔ मनोहर

Question Number : 175 Question Id : 5459279468 Question Type : MCQ Option Shuffling : Yes Display Question Number : Yes
Single Line Question Option : No Option Orientation : Vertical

Correct Marks : 1 Wrong Marks : 0.25

दिए गए वाक्यांश के लिए उचित शब्द का चयन कीजिए।

मन को लुभाने वाली वस्तु

Options :

1. ✘ चारू
2. ✘ रुचिर
3. ✘ रुचिकर
4. ✔ मनोहर

Question Number : 176 Question Id : 5459279469 Question Type : MCQ Option Shuffling : Yes Display Question Number : Yes
Single Line Question Option : No Option Orientation : Vertical

Correct Marks : 1 Wrong Marks : 0.25

दिए गए वाक्य के शुद्ध रूप का चयन कीजिए।

राजा ने चोर को मृत्यु दंड की सजा दी।

Options :

1. ✓ राजा ने चोर को मृत्यु दंड दिया।
2. ✗ राजा ने चोर को दंडित किया।
3. ✗ राजा ने चोर को मार दिया।
4. ✗ राजा ने चोर को मृत्यु दी।

Question Number : 176 Question Id : 5459279469 Question Type : MCQ Option Shuffling : Yes Display Question Number : Yes
Single Line Question Option : No Option Orientation : Vertical

Correct Marks : 1 Wrong Marks : 0.25

दिए गए वाक्य के शुद्ध रूप का चयन कीजिए।

राजा ने चोर को मृत्यु दंड की सजा दी।

Options :

1. ✓ राजा ने चोर को मृत्यु दंड दिया।
2. ✗ राजा ने चोर को दंडित किया।
3. ✗ राजा ने चोर को मार दिया।
4. ✗ राजा ने चोर को मृत्यु दी।

Question Number : 177 Question Id : 5459279470 Question Type : MCQ Option Shuffling : Yes Display Question Number : Yes
Single Line Question Option : No Option Orientation : Vertical

Correct Marks : 1 Wrong Marks : 0.25

दिए गए वाक्य का काल ज्ञात कीजिए।

बच्चों ने खाना खाया।

Options :

1. ✗ आसन्न भूतकाल
2. ✗ अपूर्ण भूतकाल
3. ✗ संदिग्ध भूतकाल
4. ✓ सामान्य भूतकाल

Question Number : 177 Question Id : 5459279470 Question Type : MCQ Option Shuffling : Yes Display Question Number : Yes
Single Line Question Option : No Option Orientation : Vertical

Correct Marks : 1 Wrong Marks : 0.25

दिए गए वाक्य का काल ज्ञात कीजिए।

बच्चों ने खाना खाया।

Options :

1. ✗ आसन्न भूतकाल
2. ✗ अपूर्ण भूतकाल
3. ✗ संदिग्ध भूतकाल
4. ✓ सामान्य भूतकाल

Question Number : 178 Question Id : 5459279471 Question Type : MCQ Option Shuffling : Yes Display Question Number : Yes
Single Line Question Option : No Option Orientation : Vertical

Correct Marks : 1 Wrong Marks : 0.25

दिए गए वाक्यों में से शुद्ध वाक्य का चयन कीजिए।

Options :

1. ✘ सिपाही कमर कसा बैठा है
2. ✔ सिपाही कमर कसे बैठा है
3. ✘ सिपाही कमर को कसे बैठा है
4. ✘ सिपाही कमर में कसे बैठा है

Question Number : 178 Question Id : 5459279471 Question Type : MCQ Option Shuffling : Yes Display Question Number : Yes
Single Line Question Option : No Option Orientation : Vertical

Correct Marks : 1 Wrong Marks : 0.25

दिए गए वाक्यों में से शुद्ध वाक्य का चयन कीजिए।

Options :

1. ✘ सिपाही कमर कसा बैठा है
2. ✔ सिपाही कमर कसे बैठा है
3. ✘ सिपाही कमर को कसे बैठा है
4. ✘ सिपाही कमर में कसे बैठा है

Question Number : 179 Question Id : 5459279472 Question Type : MCQ Option Shuffling : Yes Display Question Number : Yes
Single Line Question Option : No Option Orientation : Vertical

Correct Marks : 1 Wrong Marks : 0.25

दिए गए वाक्य में कारक की विभक्ति ज्ञात कीजिए।

हे ईश्वर! मेरी सहायता करो

Options :

1. ✘ अधिकरण
2. ✔ संबोधन
3. ✘ संबंध
4. ✘ कर्ता

Question Number : 179 Question Id : 5459279472 Question Type : MCQ Option Shuffling : Yes Display Question Number : Yes
Single Line Question Option : No Option Orientation : Vertical

Correct Marks : 1 Wrong Marks : 0.25

दिए गए वाक्य में कारक की विभक्ति ज्ञात कीजिए।

हे ईश्वर! मेरी सहायता करो

Options :

1. ✘ अधिकरण
2. ✔ संबोधन
3. ✘ संबंध
4. ✘ कर्ता

Question Number : 180 Question Id : 5459279473 Question Type : MCQ Option Shuffling : Yes Display Question Number : Yes
Single Line Question Option : No Option Orientation : Vertical

Correct Marks : 1 Wrong Marks : 0.25

दिए गए वाक्य में वृत्ति के रूप की पहचान कीजिए।

मोहन नाच रहा होगा।

Options :

1. ✔ संदेहार्थक
2. ✘ आज्ञार्थक
3. ✘ निश्चयवाचक

4. ✖ संभवनार्थक

Question Number : 180 Question Id : 5459279473 Question Type : MCQ Option Shuffling : Yes Display Question Number : Yes
Single Line Question Option : No Option Orientation : Vertical

Correct Marks : 1 Wrong Marks : 0.25

दिए गए वाक्य में वृत्ति के रूप की पहचान कीजिए।

मोहन नाच रहा होगा।

Options :

1. ✔ संदेहार्थक
2. ✖ आज्ञार्थक
3. ✖ निश्चयवाचक
4. ✖ संभवनार्थक

General Hindi2

Group Number :	10
Group Id :	545927470
Group Maximum Duration :	0
Group Minimum Duration :	120
Revisit allowed for view? :	No
Revisit allowed for edit? :	No
Break time:	0
Group Marks:	20
Revisit allowed for group Instructions? :	Yes
Maximum Instruction Time:	0
Minimum Instruction Time:	0

General Hindi2

Section Id :	545927470
Section Number :	1
Section type :	Online
Mandatory or Optional:	Mandatory
Number of Questions:	16
Number of Questions to be attempted:	16
Section Marks:	20
Display Number Panel:	Yes
Group All Questions:	No

Sub-Section Number:	1
Sub-Section Id:	545927563
Question Shuffling Allowed :	Yes

Question Number : 181 Question Id : 5459279474 Question Type : MCQ Option Shuffling : Yes Display Question Number : Yes
Single Line Question Option : No Option Orientation : Vertical

Correct Marks : 1 Wrong Marks : 0.25

दिए गए वाक्य में वाच्य के रूप की पहचान कीजिए।

आज मैं पढ़ नहीं सकूँगी।

Options :

1. ✓ कर्तृवाच्य
2. ✗ भाववाच्य
3. ✗ कर्मवाच्य
4. ✗ गुणवाच्य

Question Number : 181 Question Id : 5459279474 Question Type : MCQ Option Shuffling : Yes Display Question Number : Yes
Single Line Question Option : No Option Orientation : Vertical

Correct Marks : 1 Wrong Marks : 0.25

दिए गए वाक्य में वाच्य के रूप की पहचान कीजिए।

आज मैं पढ़ नहीं सकूँगी।

Options :

1. ✓ कर्तृवाच्य
2. ✗ भाववाच्य
3. ✗ कर्मवाच्य
4. ✗ गुणवाच्य

Question Number : 182 Question Id : 5459279475 Question Type : MCQ Option Shuffling : Yes Display Question Number : Yes
Single Line Question Option : No Option Orientation : Vertical

Correct Marks : 1 Wrong Marks : 0.25

दिए गए वाक्य में पक्ष के रूप की पहचान कीजिए।

मैंने पढ़ाई पूरी कर ली है।

Options :

1. ✗ नित्य पक्ष
2. ✓ पूर्ण पक्ष
3. ✗ अपूर्ण पक्ष
4. ✗ सातत्यबोधक पक्ष

Question Number : 182 Question Id : 5459279475 Question Type : MCQ Option Shuffling : Yes Display Question Number : Yes
Single Line Question Option : No Option Orientation : Vertical

Correct Marks : 1 Wrong Marks : 0.25

दिए गए वाक्य में पक्ष के रूप की पहचान कीजिए।

मैंने पढ़ाई पूरी कर ली है।

Options :

1. ✗ नित्य पक्ष
2. ✓ पूर्ण पक्ष
3. ✗ अपूर्ण पक्ष
4. ✗ सातत्यबोधक पक्ष

Question Number : 183 Question Id : 5459279476 Question Type : MCQ Option Shuffling : Yes Display Question Number : Yes
Single Line Question Option : No Option Orientation : Vertical

Correct Marks : 1 Wrong Marks : 0.25

दिए गए वाक्य में रेखांकित भाग किस प्रकार का पुरुष है ज्ञात कीजिए।

आप कल परीक्षा देने जाना।

Options :

1. ✗ प्रथम

2. ✘ उत्तम
3. ✔ अन्य
4. ✘ मध्यम

Question Number : 183 Question Id : 5459279476 Question Type : MCQ Option Shuffling : Yes Display Question Number : Yes
Single Line Question Option : No Option Orientation : Vertical

Correct Marks : 1 Wrong Marks : 0.25

दिए गए वाक्य में रेखांकित भाग किस प्रकार का पुरुष है ज्ञात कीजिए।

आप कल परीक्षा देने जाना।

Options :

1. ✘ प्रथम
2. ✘ उत्तम
3. ✔ अन्य
4. ✘ मध्यम

Question Number : 184 Question Id : 5459279477 Question Type : MCQ Option Shuffling : Yes Display Question Number : Yes
Single Line Question Option : No Option Orientation : Vertical

Correct Marks : 1 Wrong Marks : 0.25

निम्नलिखित में से कौन सा सरल वाक्य का उदाहरण नहीं है?

Options :

1. ✘ बिजली कड़कती है।
2. ✘ छात्र मैदान में खेल रहे हैं।
3. ✘ मेहमान आते हैं।
4. ✔ आयुष आया और आते ही खेलने लगा।

Question Number : 184 Question Id : 5459279477 Question Type : MCQ Option Shuffling : Yes Display Question Number : Yes
Single Line Question Option : No Option Orientation : Vertical

Correct Marks : 1 Wrong Marks : 0.25

निम्नलिखित में से कौन सा सरल वाक्य का उदाहरण नहीं है?

Options :

1. ✘ बिजली कड़कती है।
2. ✘ छात्र मैदान में खेल रहे हैं।
3. ✘ मेहमान आते हैं।
4. ✔ आयुष आया और आते ही खेलने लगा।

Question Number : 185 Question Id : 5459279478 Question Type : MCQ Option Shuffling : Yes Display Question Number : Yes
Single Line Question Option : No Option Orientation : Vertical

Correct Marks : 1 Wrong Marks : 0.25

दिए गए वाक्य के रूप की पहचान कीजिए।

जब दुर्घटना की बात सुनी, तब मन दुखी हो गया।

Options :

1. ✘ सरल
2. ✘ संयुक्त
3. ✔ मिश्र
4. ✘ आज्ञार्थक

Question Number : 185 Question Id : 5459279478 Question Type : MCQ Option Shuffling : Yes Display Question Number : Yes
Single Line Question Option : No Option Orientation : Vertical

Correct Marks : 1 Wrong Marks : 0.25

दिए गए वाक्य के रूप की पहचान कीजिए।

जब दुर्घटना की बात सुनी, तब मन दुखी हो गया।

Options :

1. ✘ सरल
2. ✘ संयुक्त
3. ✔ मिश्र
4. ✘ आज्ञार्थक

Question Number : 186 Question Id : 5459279479 Question Type : MCQ Option Shuffling : Yes Display Question Number : Yes
Single Line Question Option : No Option Orientation : Vertical

Correct Marks : 1 Wrong Marks : 0.25

वचन के द्वारा क्या पता चलता है?

Options :

1. ✘ लिंग
2. ✔ संख्या
3. ✘ कारक
4. ✘ संज्ञा

Question Number : 186 Question Id : 5459279479 Question Type : MCQ Option Shuffling : Yes Display Question Number : Yes
Single Line Question Option : No Option Orientation : Vertical

Correct Marks : 1 Wrong Marks : 0.25

वचन के द्वारा क्या पता चलता है?

Options :

1. ✘ लिंग
2. ✔ संख्या
3. ✘ कारक
4. ✘ संज्ञा

Question Number : 187 Question Id : 5459279480 Question Type : MCQ Option Shuffling : Yes Display Question Number : Yes
Single Line Question Option : No Option Orientation : Vertical

Correct Marks : 1 Wrong Marks : 0.25

निम्नलिखित में से कौन सा शब्द पुल्लिंग नहीं है?

Options :

1. ✘ झंडा
2. ✔ कसम
3. ✘ बुखार
4. ✘ डंडा

Question Number : 187 Question Id : 5459279480 Question Type : MCQ Option Shuffling : Yes Display Question Number : Yes
Single Line Question Option : No Option Orientation : Vertical

Correct Marks : 1 Wrong Marks : 0.25

निम्नलिखित में से कौन सा शब्द पुल्लिंग नहीं है?

Options :

1. ✘ झंडा
2. ✔ कसम

3. ✖ बुखार

4. ✖ डंडा

Question Number : 188 Question Id : 5459279481 Question Type : MCQ Option Shuffling : Yes Display Question Number : Yes
Single Line Question Option : No Option Orientation : Vertical

Correct Marks : 1 Wrong Marks : 0.25

निम्नलिखित प्रश्न में, दिए गए चार विकल्पों में से, उस विकल्प का चयन करें जो दिए गए मुहावरे के अर्थ को सर्वश्रेष्ठ रूप से व्यक्त करता है।

आंख का अंधा नाम नैन सुखा

Options :

1. ✔ नाम के अनुसार गुण न होना

2. ✖ पूर्ण रूप से स्वतंत्र

3. ✖ स्वार्थ में आदमी दूसरों की चिंता नहीं करता

4. ✖ अपनी चीज को कोई बुरा नहीं कहता

Question Number : 188 Question Id : 5459279481 Question Type : MCQ Option Shuffling : Yes Display Question Number : Yes
Single Line Question Option : No Option Orientation : Vertical

Correct Marks : 1 Wrong Marks : 0.25

निम्नलिखित प्रश्न में, दिए गए चार विकल्पों में से, उस विकल्प का चयन करें जो दिए गए मुहावरे के अर्थ को सर्वश्रेष्ठ रूप से व्यक्त करता है।

आंख का अंधा नाम नैन सुखा

Options :

1. ✔ नाम के अनुसार गुण न होना

2. ✖ पूर्ण रूप से स्वतंत्र

3. ✖ स्वार्थ में आदमी दूसरों की चिंता नहीं करता

4. ✖ अपनी चीज को कोई बुरा नहीं कहता

Question Number : 189 Question Id : 5459279482 Question Type : MCQ Option Shuffling : Yes Display Question Number : Yes
Single Line Question Option : No Option Orientation : Vertical

Correct Marks : 1 Wrong Marks : 0.25

निम्नलिखित प्रश्न में, दिए गए चार विकल्पों में से, उस विकल्प का चयन करें जो दिए गए मुहावरे के अर्थ को सर्वश्रेष्ठ रूप से व्यक्त करता है।

आँख रखना

Options :

1. ✖ नजर लगाना

2. ✔ निगरानी रखना

3. ✖ अपनी नींद सोना

4. ✖ अभी कसर बाकी है

Question Number : 189 Question Id : 5459279482 Question Type : MCQ Option Shuffling : Yes Display Question Number : Yes
Single Line Question Option : No Option Orientation : Vertical

Correct Marks : 1 Wrong Marks : 0.25

निम्नलिखित प्रश्न में, दिए गए चार विकल्पों में से, उस विकल्प का चयन करें जो दिए गए मुहावरे के अर्थ को सर्वश्रेष्ठ रूप से व्यक्त करता है।

आँख रखना

Options :

1. ✖ नजर लगाना

2. ✔ निगरानी रखना

3. ✖ अपनी नींद सोना

4. ✖ अभी कसर बाकी है

Question Number : 190 Question Id : 5459279483 Question Type : MCQ Option Shuffling : Yes Display Question Number : Yes
Single Line Question Option : No Option Orientation : Vertical

Correct Marks : 1 Wrong Marks : 0.25

निम्नलिखित प्रश्न में, दिए गए चार विकल्पों में से, उस विकल्प का चयन करें जो दिए गए मुहावरे के अर्थ को सर्वश्रेष्ठ रूप से व्यक्त करता है।

एक के दूने से सौ के सवाये भले

Options :

- ❌ दोषी व्यक्ति के साथ निर्दोष भी फंस जाता है।
- ❌ व्यर्थ का आडम्बर करना।
- ❌ परम शान्ति का होना।
- ✅ कम लाभ पर अधिक माल बेचना।

Question Number : 190 Question Id : 5459279483 Question Type : MCQ Option Shuffling : Yes Display Question Number : Yes
Single Line Question Option : No Option Orientation : Vertical

Correct Marks : 1 Wrong Marks : 0.25

निम्नलिखित प्रश्न में, दिए गए चार विकल्पों में से, उस विकल्प का चयन करें जो दिए गए मुहावरे के अर्थ को सर्वश्रेष्ठ रूप से व्यक्त करता है।

एक के दूने से सौ के सवाये भले

Options :

- ❌ दोषी व्यक्ति के साथ निर्दोष भी फंस जाता है।
- ❌ व्यर्थ का आडम्बर करना।
- ❌ परम शान्ति का होना।
- ✅ कम लाभ पर अधिक माल बेचना।

Question Number : 191 Question Id : 5459279484 Question Type : MCQ Option Shuffling : Yes Display Question Number : Yes
Single Line Question Option : No Option Orientation : Vertical

Correct Marks : 1 Wrong Marks : 0.25

निम्नलिखित प्रश्न में, दिए गए चार विकल्पों में से, उस विकल्प का चयन करें जो दिए गए वाक्य के अनुरूप सर्वश्रेष्ठ मुहावरा हो।

एक ही जैसे दुर्गुण वाले लोग।

Options :

- ❌ आँख और कान में चार अंगुल का फकी।
- ❌ आँख के आगे नाक, सूझे क्या खाका।
- ✅ एक ही थाली के चट्टे बट्टे।
- ❌ गेहूँ के साथ घुन भी पिसता है।

Question Number : 191 Question Id : 5459279484 Question Type : MCQ Option Shuffling : Yes Display Question Number : Yes
Single Line Question Option : No Option Orientation : Vertical

Correct Marks : 1 Wrong Marks : 0.25

निम्नलिखित प्रश्न में, दिए गए चार विकल्पों में से, उस विकल्प का चयन करें जो दिए गए वाक्य के अनुरूप सर्वश्रेष्ठ मुहावरा हो।

एक ही जैसे दुर्गुण वाले लोग।

Options :

- ❌ आँख और कान में चार अंगुल का फकी।
- ❌ आँख के आगे नाक, सूझे क्या खाका।
- ✅ एक ही थाली के चट्टे बट्टे।
- ❌ गेहूँ के साथ घुन भी पिसता है।

Question Number : 192 Question Id : 5459279485 Question Type : MCQ Option Shuffling : Yes Display Question Number : Yes
Single Line Question Option : No Option Orientation : Vertical

Correct Marks : 1 Wrong Marks : 0.25

निम्नलिखित प्रश्न में, दिए गए चार विकल्पों में से, उस विकल्प का चयन करें जो दिए गए वाक्य के अनुरूप सर्वश्रेष्ठ मुहावरा हो

कोई भेदभाव नहीं

Options :

1. ✓ एक तवे की रोटी, क्या छोटी क्या मोटी
2. ✗ अशफ़ियाँ लुटे और कोयलों पर मोहरा
3. ✗ अकल के पीछे लट लिए फिरना
4. ✗ आँख एक नहीं, कजरौटा दस - दसा

Question Number : 192 Question Id : 5459279485 Question Type : MCQ Option Shuffling : Yes Display Question Number : Yes
Single Line Question Option : No Option Orientation : Vertical

Correct Marks : 1 Wrong Marks : 0.25

निम्नलिखित प्रश्न में, दिए गए चार विकल्पों में से, उस विकल्प का चयन करें जो दिए गए वाक्य के अनुरूप सर्वश्रेष्ठ मुहावरा हो

कोई भेदभाव नहीं

Options :

1. ✓ एक तवे की रोटी, क्या छोटी क्या मोटी
2. ✗ अशफ़ियाँ लुटे और कोयलों पर मोहरा
3. ✗ अकल के पीछे लट लिए फिरना
4. ✗ आँख एक नहीं, कजरौटा दस - दसा

Question Number : 193 Question Id : 5459279486 Question Type : MCQ Option Shuffling : Yes Display Question Number : Yes
Single Line Question Option : No Option Orientation : Vertical

Correct Marks : 1 Wrong Marks : 0.25

निम्नलिखित में से कौन चिह्न सहयोजक चिह्न है?

Options :

1. ✗ (l)
2. ✗ (.)
3. ✗ (;)
4. ✓ (-)

Question Number : 193 Question Id : 5459279486 Question Type : MCQ Option Shuffling : Yes Display Question Number : Yes
Single Line Question Option : No Option Orientation : Vertical

Correct Marks : 1 Wrong Marks : 0.25

निम्नलिखित में से कौन चिह्न सहयोजक चिह्न है?

Options :

1. ✗ (l)
2. ✗ (.)
3. ✗ (;)
4. ✓ (-)

Question Number : 194 Question Id : 5459279487 Question Type : MCQ Option Shuffling : Yes Display Question Number : Yes
Single Line Question Option : No Option Orientation : Vertical

Correct Marks : 1 Wrong Marks : 0.25

दिए गए क्रमों में से किसमें विराम चिह्न गलत है ज्ञात कीजिए।

Options :

1. ✗ माधवी, समय को व्यर्थ नष्ट मत करो
2. ✗ बच्चे बाग में खेल रहे हैं
3. ✓ हे प्रभो अब तो हमारा उद्धार करा

4. ✘ क्या तुम नित्य व्यायाम करते हो?

Question Number : 194 Question Id : 5459279487 Question Type : MCQ Option Shuffling : Yes Display Question Number : Yes
Single Line Question Option : No Option Orientation : Vertical

Correct Marks : 1 Wrong Marks : 0.25

दिए गए क्रमों में से किसमें विराम चिह्न गलत है ज्ञात कीजिए

Options :

1. ✘ माधवी, समय को व्यर्थ नष्ट मत करो
2. ✘ बच्चे बाग में खेल रहे हैं
3. ✔ हे प्रभो अब तो हमारा उद्धार करा
4. ✘ क्या तुम नित्य व्यायाम करते हो?

Question Number : 195 Question Id : 5459279488 Question Type : MCQ Option Shuffling : Yes Display Question Number : Yes
Single Line Question Option : No Option Orientation : Vertical

Correct Marks : 1 Wrong Marks : 0.25

दिए गए वाक्य में किस क्रम में सही विराम चिह्न है ज्ञात कीजिए

दहेज प्रथा, एक अभिशापा

Options :

1. ✘ ;
2. ✔ :
3. ✘ :-
4. ✘ -

Question Number : 195 Question Id : 5459279488 Question Type : MCQ Option Shuffling : Yes Display Question Number : Yes
Single Line Question Option : No Option Orientation : Vertical

Correct Marks : 1 Wrong Marks : 0.25

दिए गए वाक्य में किस क्रम में सही विराम चिह्न है ज्ञात कीजिए

दहेज प्रथा, एक अभिशापा

Options :

1. ✘ ;
2. ✔ :
3. ✘ :-
4. ✘ -

Sub-Section Number: 2
Sub-Section Id: 545927564
Question Shuffling Allowed : Yes

Question Id : 5459279489 Question Type : COMPREHENSION Sub Question Shuffling Allowed : Yes Group Comprehension
Questions : No

Question Numbers : (196 to 200)

Question Label : Comprehension

गद्यांश को ध्यानपूर्वक पढ़ें तथा प्रत्येक प्रश्न में चार विकल्पों में से सही विकल्प चुनें

भारत में समस्याओं की कमी नहीं है दहेज-प्रथा, जाति-प्रथा, अशिक्षा आदि कुछ ऐसी समस्याएँ हैं जो आज तक खत्म नहीं हुईं इन्हीं समस्याओं में एक महत्वपूर्ण समस्या है - वायु प्रदूषण वायु प्रदूषण के कारण हजारों लोग मौत के आगोश में चले जाते हैं वायु प्रदूषण जो हमारी ही उपज है भारत के प्रमुख नगर मुंबई, कोलकाता और चेन्नई को मिलाने के बाद जितनी गाड़ियाँ मिलेंगी उतनी ही गाड़ियाँ दिल्ली में हैं उन गाड़ियों से निकलने वाला धुआँ हमारे फेफड़ों को हानि पहुँचाता है जिससे जान भी चली जाती है ऐसी समस्या का समाधान है - सीएनजी विदेशों में इसका प्रयोग 30 साल से किया जा रहा है सीएनजी से हमें बहुत फायदा भी पहुँचा है सबसे पहले तो यह सबसे सस्ता इंधन है दूसरा इससे प्रदूषण नहीं होता इससे लगभग 95 percent प्रदूषण कम किया जा सकता है सीएनजी के द्वारा हमने प्रदूषण के कणों को कम कर दिया है सीएनजी के द्वारा नए-एव आधुनिक प्रकार के उपकरणों की संरचना की जा रही है ताकि इसका उपयोग ज्यादा से ज्यादा किया जा सके

Sub questions

Question Number : 196 Question Id : 5459279490 Question Type : MCQ Option Shuffling : Yes Display Question Number : Yes
Single Line Question Option : No Option Orientation : Vertical

Correct Marks : 1 Wrong Marks : 0.25

भारत की महत्वपूर्ण समस्या क्या है?

Options :

1. वायु-प्रदूषण
2. गाड़ी का धुआँ
3. पेट्रोल
4. डीजल

Question Number : 197 Question Id : 5459279491 Question Type : MCQ Option Shuffling : Yes Display Question Number : Yes
Single Line Question Option : No Option Orientation : Vertical

Correct Marks : 1 Wrong Marks : 0.25

उपर्युक्त गद्यांश का शीर्षक क्या है?

Options :

1. प्रमुख नगर
2. दिल्ली शहर
3. सी.एन.जी
4. दिल्ली सरकार

Question Number : 198 Question Id : 5459279492 Question Type : MCQ Option Shuffling : Yes Display Question Number : Yes
Single Line Question Option : No Option Orientation : Vertical

Correct Marks : 1 Wrong Marks : 0.25

गाड़ियों से निकलने वाला धुआँ हमारे शरीर के किस अंग में हानि पहुँचाता है?

Options :

1. सिर
2. मुँह
3. फेफड़े
4. लीवर

Question Number : 199 Question Id : 5459279493 Question Type : MCQ Option Shuffling : Yes Display Question Number : Yes
Single Line Question Option : No Option Orientation : Vertical

Correct Marks : 1 Wrong Marks : 0.25

सीएनजी किस से सस्ता इंधन है?

- I. पेट्रोल
- II. डीजल

Options :

1. केवल I
2. केवल II

3. ✓ I तथा II

4. ✗ किसी से नहीं

Question Number : 200 Question Id : 5459279494 Question Type : MCQ Option Shuffling : Yes Display Question Number : Yes Single Line Question Option : No Option Orientation : Vertical

Correct Marks : 1 Wrong Marks : 0.25

प्रदूषण के कर्णों को कम करना का क्या अर्थ है?

Options :

1. ✓ हवा में फैले प्रदूषण को कम करना

2. ✗ पहाड़ में फैली बर्फ को कम करना

3. ✗ मुंबई में फैली बाढ़ को कम करना

4. ✗ भूमि प्रदूषण को खत्म करना

Question Id : 5459279489 Question Type : COMPREHENSION Sub Question Shuffling Allowed : Yes Group Comprehension Questions : No

Question Numbers : (196 to 200)

Question Label : Comprehension

गद्यांश को ध्यानपूर्वक पढ़ें तथा प्रत्येक प्रश्न में चार विकल्पों में से सही विकल्प चुनें

भारत में समस्याओं की कमी नहीं है दहेज-प्रथा, जाति-प्रथा, अशिक्षा आदि कुछ ऐसी समस्याएँ हैं जो आज तक खत्म नहीं हुईं। इन्हीं समस्याओं में एक महत्वपूर्ण समस्या है - वायु प्रदूषण। वायु प्रदूषण के कारण हजारों लोग मौत के आगोश में चले जाते हैं। वायु प्रदूषण जो हमारा ही उपज है। भारत के प्रमुख नगर मुंबई, कोलकाता और चेन्नई को मिलाने के बाद जितनी गाड़ियाँ मिलेंगी उतनी ही गाड़ियाँ दिल्ली में हैं। उन गाड़ियों से निकलने वाला धुआँ हमारे फेफड़ों को हानि पहुंचाता है। जिससे जान भी चली जाती है। ऐसी समस्या का समाधान है - सीएनजी। विदेशों में इसका प्रयोग 30 साल से किया जा रहा है। सीएनजी से हमें बहुत फायदा भी पहुंचा है। सबसे पहले तो यह सबसे सस्ता इंधन है। दूसरा इससे प्रदूषण नहीं होता। इससे लगभग 95 प्रतिशत प्रदूषण कम किया जा सकता है। सीएनजी के द्वारा हमने प्रदूषण के कर्णों को कम कर दिया है। सीएनजी के द्वारा नए एवं आधुनिक प्रकार के उपकरणों की संरचना की जा रही है ताकि इसका उपयोग ज्यादा से ज्यादा किया जा सके।

Sub questions

Question Number : 196 Question Id : 5459279490 Question Type : MCQ Option Shuffling : Yes Display Question Number : Yes Single Line Question Option : No Option Orientation : Vertical

Correct Marks : 1 Wrong Marks : 0.25

भारत की महत्वपूर्ण समस्या क्या है?

Options :

1. ✓ वायु-प्रदूषण

2. ✗ गाड़ी का धुआँ

3. ✗ पेट्रोल

4. ✗ डीजल

Question Number : 197 Question Id : 5459279491 Question Type : MCQ Option Shuffling : Yes Display Question Number : Yes Single Line Question Option : No Option Orientation : Vertical

Correct Marks : 1 Wrong Marks : 0.25

उपर्युक्त गद्यांश का शीर्षक क्या है?

Options :

1. ✗ प्रमुख नगर

2. ✗ दिल्ली शहर

3. ✓ सी.एन.जी

4. ✗ दिल्ली सरकार

Question Number : 198 Question Id : 5459279492 Question Type : MCQ Option Shuffling : Yes Display Question Number : Yes Single Line Question Option : No Option Orientation : Vertical

Correct Marks : 1 Wrong Marks : 0.25

गाड़ियों से निकलने वाला धुआं हमारे शरीर के किस अंग में हानि पहुँचाता है?

Options :

1. ✘ सिर
2. ✘ मुँह
3. ✔ फेफड़े
4. ✘ लीवर

Question Number : 199 Question Id : 5459279493 Question Type : MCQ Option Shuffling : Yes Display Question Number : Yes
Single Line Question Option : No Option Orientation : Vertical

Correct Marks : 1 Wrong Marks : 0.25

सीएनजी किस से सस्ता इंधन है?

- I. पेट्रोल
- II. डीजल

Options :

1. ✘ केवल I
2. ✘ केवल II
3. ✔ I तथा II
4. ✘ किसी से नहीं

Question Number : 200 Question Id : 5459279494 Question Type : MCQ Option Shuffling : Yes Display Question Number : Yes
Single Line Question Option : No Option Orientation : Vertical

Correct Marks : 1 Wrong Marks : 0.25

प्रदूषण के कणों को कम करना का क्या अर्थ है?

Options :

1. ✔ हवा में फैले प्रदूषण को कम करना
2. ✘ पहाड़ में फैली बर्फ को कम करना
3. ✘ मुंबई में फैली बाढ़ को कम करना
4. ✘ भूमि प्रदूषण को खत्म करना