

Education Consultant India Ltd.

Notations :

- 1.Options shown in green color and with ✓ icon are correct.
- 2.Options shown in red color and with ✖ icon are incorrect.

Question Paper Name:	Lower Division Clerk 26th August 2019 S2
Subject Name:	LOWER DIVISION CLERK
Creation Date:	2019-08-26 15:54:58
Duration:	120
Total Marks:	200
Display Marks:	Yes
Share Answer Key With Delivery Engine:	No
Actual Answer Key:	Yes
Calculator:	None
Magnifying Glass Required?:	No
Ruler Required?:	No
Eraser Required?:	No
Scratch Pad Required?:	No
Rough Sketch/Notepad Required?:	No
Protractor Required?:	No
Show Watermark on Console?:	Yes
Highlighter:	No
Auto Save on Console?:	No

Mental Ability 1

Group Number :	1
Group Id :	998367650
Group Maximum Duration :	0
Group Minimum Duration :	0
Revisit allowed for view? :	No
Revisit allowed for edit? :	No
Break time:	0
Group Marks:	20
Revisit allowed for group Instructions? :	Yes
Maximum Instruction Time:	0
Minimum Instruction Time:	0

Mental Ability 1

Section Id :	998367771
Section Number :	1
Section type :	Online
Mandatory or Optional:	Mandatory
Number of Questions:	20
Number of Questions to be attempted:	20
Section Marks:	20

Display Number Panel: Yes
Group All Questions: No

Sub-Section Number: 1
Sub-Section Id: 998367983
Question Shuffling Allowed : Yes

Question Number : 1 Question Id : 99836718305 Question Type : MCQ Option Shuffling : Yes Display Question Number : Yes
Single Line Question Option : No Option Orientation : Vertical

Correct Marks : 1 Wrong Marks : 0.25

Which of the following words CANNOT be made by using the letters from the given word?

COURAGEOUS

Options :

1. ✘ CARGO
2. ✔ GREAT
3. ✘ GRACE
4. ✘ ROUGE

Question Number : 1 Question Id : 99836718305 Question Type : MCQ Option Shuffling : Yes Display Question Number : Yes
Single Line Question Option : No Option Orientation : Vertical

Correct Marks : 1 Wrong Marks : 0.25

निम्नलिखित में के कौन सा-शब्द दिए गए शब्द से अक्षरों का उपयोग करके नहीं बनाया जा सकता है?

COURAGEOUS

Options :

1. ✘ CARGO
2. ✔ GREAT
3. ✘ GRACE
4. ✘ ROUGE

Question Number : 2 Question Id : 99836718306 Question Type : MCQ Option Shuffling : Yes Display Question Number : Yes
Single Line Question Option : No Option Orientation : Vertical

Correct Marks : 1 Wrong Marks : 0.25

Select the term that will come next in the following series.

Z1X, W2T, S3O, _____

Options :

1. ✘ N4J
2. ✔ N4I
3. ✘ O4K
4. ✘ O4J

Question Number : 2 Question Id : 99836718306 Question Type : MCQ Option Shuffling : Yes Display Question Number : Yes
Single Line Question Option : No Option Orientation : Vertical

Correct Marks : 1 Wrong Marks : 0.25

अगले श्रृंखला में आने वाले शब्द का चयन करें

Z1X, W2T, S3O, _____

Options :

1. ✘ N4J
2. ✔ N4I
3. ✘ O4K
4. ✘ O4J

Question Number : 3 Question Id : 99836718307 Question Type : MCQ Option Shuffling : Yes Display Question Number : Yes
Single Line Question Option : No Option Orientation : Vertical

Correct Marks : 1 Wrong Marks : 0.25

Find the missing term in the following letter series.

XXXOXXX, XXOXXXX, XXXOXXX, OXXXOXXX, XXXOXXXO, ?

Options :

1. ✘ XXXOXOXX
2. ✘ XXOXOXX
3. ✘ XXOXXXOX
4. ✔ XXXOXXXO

Question Number : 3 Question Id : 99836718307 Question Type : MCQ Option Shuffling : Yes Display Question Number : Yes
Single Line Question Option : No Option Orientation : Vertical

Correct Marks : 1 Wrong Marks : 0.25

निम्नलिखित अक्षर श्रृंखला में लुप्त पद को ज्ञात करें

XXXOXXX, XXOXXXX, XXXOXXX, OXXXOXXX, XXXOXXXO, ?

Options :

1. ✘ XXXOXOXX
2. ✘ XXOXOXX
3. ✘ XXOXXXOX
4. ✔ XXXOXXXO

Question Number : 4 Question Id : 99836718308 Question Type : MCQ Option Shuffling : Yes Display Question Number : Yes
Single Line Question Option : No Option Orientation : Vertical

Correct Marks : 1 Wrong Marks : 0.25

Out of the given options, three are similar in a certain manner. However, one option is NOT like the other three. Select the option which is different from the rest.

Options :

1. ✘ SVY
2. ✘ JMP
3. ✔ MOQ
4. ✘ ADG

Question Number : 4 Question Id : 99836718308 Question Type : MCQ Option Shuffling : Yes Display Question Number : Yes
Single Line Question Option : No Option Orientation : Vertical

Correct Marks : 1 Wrong Marks : 0.25

दिए गए विकल्पों में से, तीन एक निश्चित तरीके से समान हैं। हालाँकि, एक विकल्प अन्य तीन की तरह नहीं है। उस विकल्प का चयन करें जो बाकी से अलग है।

Options :

1. ✘ SVY
2. ✘ JMP
3. ✔ MOQ

4. ✖ ADG

Question Number : 5 Question Id : 99836718309 Question Type : MCQ Option Shuffling : Yes Display Question Number : Yes
Single Line Question Option : No Option Orientation : Vertical

Correct Marks : 1 Wrong Marks : 0.25

Out of the given options, three are similar in a certain manner. However, one option is NOT like the other three. Select the option which is different from the rest.

Options :

1. ✖ Cake
2. ✖ Bread
3. ✔ Potato Chip
4. ✖ Biscuit

Question Number : 5 Question Id : 99836718309 Question Type : MCQ Option Shuffling : Yes Display Question Number : Yes
Single Line Question Option : No Option Orientation : Vertical

Correct Marks : 1 Wrong Marks : 0.25

दिए गए विकल्पों में से, तीन एक निश्चित तरीके से समान हैं। हालाँकि, एक विकल्प अन्य तीन की तरह नहीं है। उस विकल्प का चयन करें जो बाकी से अलग है।

Options :

1. ✖ केक
2. ✖ डबलरोटी
3. ✔ आलू के चिप
4. ✖ बिस्कुट

Question Number : 6 Question Id : 99836718310 Question Type : MCQ Option Shuffling : Yes Display Question Number : Yes
Single Line Question Option : No Option Orientation : Vertical

Correct Marks : 1 Wrong Marks : 0.25

In the given options 3 pairs of words are similarly related and one pair is differently related. Find the pair which is differently related.

Options :

1. ✖ Cock : Hen
2. ✖ Bull : Cow
3. ✖ Dog : Bitch
4. ✔ Lion : Cub

Question Number : 6 Question Id : 99836718310 Question Type : MCQ Option Shuffling : Yes Display Question Number : Yes
Single Line Question Option : No Option Orientation : Vertical

Correct Marks : 1 Wrong Marks : 0.25

दिए गए विकल्पों में शब्दों की 3 संबंधित समान रूप से सम्बंधित हैं, और एक जोड़ी अलग तरह से संबंधित है। उस जोड़ी को ज्ञात करें जो अलग तरह से संबंधित है।

Options :

1. ✖ मुर्गा : मुर्गी
2. ✖ बैल : गाय
3. ✖ कुत्ता : कुतिया
4. ✔ शेर : पशुशावक

Question Number : 7 Question Id : 99836718311 Question Type : MCQ Option Shuffling : Yes Display Question Number : Yes
Single Line Question Option : No Option Orientation : Vertical

Correct Marks : 1 Wrong Marks : 0.25

Select the option that is related to the third term on the same basis as the second term is related to the first term.

OTL : LGO :: ZTR : ?

Options :

1. ✘ AUS
2. ✘ BVT
3. ✔ AGI
4. ✘ CWU

Question Number : 7 Question Id : 99836718311 Question Type : MCQ Option Shuffling : Yes Display Question Number : Yes
Single Line Question Option : No Option Orientation : Vertical

Correct Marks : 1 Wrong Marks : 0.25

उस विकल्प का चयन करें जो तीसरे पद से उसी प्रकार से संबंधित है जिस प्रकार से दूसरा पद पहले पद से संबंधित है

OTL : LGO :: ZTR : ?

Options :

1. ✘ AUS
2. ✘ BVT
3. ✔ AGI
4. ✘ CWU

Question Number : 8 Question Id : 99836718312 Question Type : MCQ Option Shuffling : Yes Display Question Number : Yes
Single Line Question Option : No Option Orientation : Vertical

Correct Marks : 1 Wrong Marks : 0.25

Select the option that is related to the third term on the same basis as the second term is related to the first term.

Eyes : Wink :: Lips : ?

Options :

1. ✘ Eat
2. ✘ Pair
3. ✔ Smile
4. ✘ Shout

Question Number : 8 Question Id : 99836718312 Question Type : MCQ Option Shuffling : Yes Display Question Number : Yes
Single Line Question Option : No Option Orientation : Vertical

Correct Marks : 1 Wrong Marks : 0.25

उस विकल्प का चयन करें जो तीसरे पद से उसी प्रकार से संबंधित है जिस प्रकार से दूसरा पद पहले पद से संबंधित है

आँखें : पलक :: होंठ : ?

Options :

1. ✘ खाओ
2. ✘ जोड़ा
3. ✔ मुस्कराना
4. ✘ चिल्लाना

Question Number : 9 Question Id : 99836718313 Question Type : MCQ Option Shuffling : Yes Display Question Number : Yes
Single Line Question Option : No Option Orientation : Vertical

Correct Marks : 1 Wrong Marks : 0.25

From the given options find a pair of letters which is analogous to the given pair.

DEY : BCW

Options :

1. ✓ OBD : MZB
2. ✗ LYA : UGR
3. ✗ PCE : PFE
4. ✗ QDF : DER

Question Number : 9 Question Id : 99836718313 Question Type : MCQ Option Shuffling : Yes Display Question Number : Yes
Single Line Question Option : No Option Orientation : Vertical

Correct Marks : 1 Wrong Marks : 0.25

दिए गए विकल्पों में से अक्षरों की एक जोड़ी को ज्ञात करें, जो दिए गए जोड़े के अनुरूप है।

DEY : BCW

Options :

1. ✓ OBD : MZB
2. ✗ LYA : UGR
3. ✗ PCE : PFE
4. ✗ QDF : DER

Question Number : 10 Question Id : 99836718314 Question Type : MCQ Option Shuffling : Yes Display Question Number : Yes
Single Line Question Option : No Option Orientation : Vertical

Correct Marks : 1 Wrong Marks : 0.25

If EUPHORIA is coded as HXSKRULD, then SILENCE will be coded as _____.

Options :

1. ✗ VLOFRGH
2. ✗ TJMFODF
3. ✗ TKNFODF
4. ✓ VLOHQFH

Question Number : 10 Question Id : 99836718314 Question Type : MCQ Option Shuffling : Yes Display Question Number : Yes
Single Line Question Option : No Option Orientation : Vertical

Correct Marks : 1 Wrong Marks : 0.25

यदि EUPHORIA को HXSKRULD के रूप में कूटबद्ध किया जाता है, तो SILENCE को _____ के रूप में कोडित किया जाएगा।

Options :

1. ✗ VLOFRGH
2. ✗ TJMFODF
3. ✗ TKNFODF
4. ✓ VLOHQFH

Question Number : 11 Question Id : 99836718315 Question Type : MCQ Option Shuffling : Yes Display Question Number : Yes
Single Line Question Option : No Option Orientation : Vertical

Correct Marks : 1 Wrong Marks : 0.25

In a certain code language, 1248 means 'that dress is nice', 1235 means 'dress that little doll' and 4589 means 'this doll is nice'. Find the code for 'this'.

Options :

1. ✗ 5
2. ✗ 8

3. ✖ 4

4. ✔ 9

Question Number : 11 Question Id : 99836718315 Question Type : MCQ Option Shuffling : Yes Display Question Number : Yes
Single Line Question Option : No Option Orientation : Vertical

Correct Marks : 1 Wrong Marks : 0.25

एक निश्चित कोड भाषा में, 1248 का अर्थ है 'that dress is nice', 1235 का अर्थ है 'dress that little doll' और 4589 का अर्थ है 'this doll is nice'। 'this' के लिए कोड ज्ञात करो

Options :

1. ✖ 5

2. ✖ 8

3. ✖ 4

4. ✔ 9

Question Number : 12 Question Id : 99836718316 Question Type : MCQ Option Shuffling : Yes Display Question Number : Yes
Single Line Question Option : No Option Orientation : Vertical

Correct Marks : 1 Wrong Marks : 0.25

Here are some words from an artificial language.

'pixdav' means 'sometime'

'pixner' means 'timeline'

'nerkul' means 'lineman'

Which word would mean 'mankind'?

Options :

1. ✖ davtem

2. ✔ solkul

3. ✖ nerleq

4. ✖ diwpix

Question Number : 12 Question Id : 99836718316 Question Type : MCQ Option Shuffling : Yes Display Question Number : Yes
Single Line Question Option : No Option Orientation : Vertical

Correct Marks : 1 Wrong Marks : 0.25

यहाँ एक कृत्रिम भाषा के कुछ शब्द दिए गए हैं।

'pixdav' का अर्थ है 'sometime'

'pixner' का अर्थ है 'timeline'

'nerkul' का अर्थ है 'lineman'

किस शब्द का अर्थ 'mankind' है?

Options :

1. ✖ davtem

2. ✔ solkul

3. ✖ nerleq

4. ✖ diwpix

Question Number : 13 Question Id : 99836718317 Question Type : MCQ Option Shuffling : Yes Display Question Number : Yes
Single Line Question Option : No Option Orientation : Vertical

Correct Marks : 1 Wrong Marks : 0.25

Arrange the following words as per order in the English dictionary and choose the third word.

1. MENARCHE
2. MEMORISE
3. MENACING
4. MENISCUS
4. MENSWEAR

Options :

1. ✓ MENARCHE
2. ✗ MEMORISE
3. ✗ MENISCUS
4. ✗ MENACING

Question Number : 13 Question Id : 99836718317 Question Type : MCQ Option Shuffling : Yes Display Question Number : Yes
Single Line Question Option : No Option Orientation : Vertical

Correct Marks : 1 Wrong Marks : 0.25

निम्नलिखित शब्दों को अंग्रेजी शब्दकोश के क्रम के अनुसार व्यवस्थित करें और तीसरा शब्द चुनें

1. MENARCHE
2. MEMORISE
3. MENACING
4. MENISCUS
4. MENSWEAR

Options :

1. ✓ MENARCHE
2. ✗ MEMORISE
3. ✗ MENISCUS
4. ✗ MENACING

Question Number : 14 Question Id : 99836718318 Question Type : MCQ Option Shuffling : Yes Display Question Number : Yes
Single Line Question Option : No Option Orientation : Vertical

Correct Marks : 1 Wrong Marks : 0.25

If the 13th of a month falls on a Monday, 26th of that month will fall on which day of the week?

Options :

1. ✗ Saturday
2. ✗ Friday
3. ✗ Thursday
4. ✓ Sunday

Question Number : 14 Question Id : 99836718318 Question Type : MCQ Option Shuffling : Yes Display Question Number : Yes
Single Line Question Option : No Option Orientation : Vertical

Correct Marks : 1 Wrong Marks : 0.25

यदि किसी महीने की 13 तारीख सोमवार को पड़ती है, तो उस महीने की 26 तारीख सप्ताह के किस दिन पड़ेगी?

Options :

1. ✗ शनिवार
2. ✗ शुक्रवार
3. ✗ गुरुवार
4. ✓ रविवार

Question Number : 15 Question Id : 99836718319 Question Type : MCQ Option Shuffling : Yes Display Question Number : Yes
Single Line Question Option : No Option Orientation : Vertical

Correct Marks : 1 Wrong Marks : 0.25

P described his relation with Q by saying that Q was her father's father's wife's daughter-in-law. If P's father has no siblings how is Q related to P?

Options :

1. ✘ Daughter
2. ✘ Wife
3. ✘ Sister
4. ✔ Mother

Question Number : 15 Question Id : 99836718319 Question Type : MCQ Option Shuffling : Yes Display Question Number : Yes Single Line Question Option : No Option Orientation : Vertical

Correct Marks : 1 Wrong Marks : 0.25

P ने Q के साथ अपने संबंध का वर्णन यह कह कर किया कि Q उसके पिता के पत्नी की बहू थी। यदि P के पिता का कोई भाई-बहन नहीं है, तो Q, P किस प्रकार सम्बंधित है?

Options :

1. ✘ बेटी
2. ✘ पत्नी
3. ✘ बहन
4. ✔ माता

Question Number : 16 Question Id : 99836718320 Question Type : MCQ Option Shuffling : Yes Display Question Number : Yes Single Line Question Option : No Option Orientation : Vertical

Correct Marks : 1 Wrong Marks : 0.25

A, B, C, D, E and F are sitting in a circle facing the centre. A is sitting opposite to F. D and B are neighbours. E is not opposite to D and C is to the left of F. Who is to the Left of B?

Options :

1. ✘ A
2. ✔ F
3. ✘ C
4. ✘ E

Question Number : 16 Question Id : 99836718320 Question Type : MCQ Option Shuffling : Yes Display Question Number : Yes Single Line Question Option : No Option Orientation : Vertical

Correct Marks : 1 Wrong Marks : 0.25

A, B, C, D, E और F केंद्र के सामने मुंह करके वृत्ताकार बैठे हैं। A, F के विपरीत बैठा है। D और B पड़ोसी हैं। E, D के विपरीत नहीं बैठा है और C, F के बाईं ओर है। B के बाएं तरफ कौन है?

Options :

1. ✘ A
2. ✔ F
3. ✘ C
4. ✘ E

Question Number : 17 Question Id : 99836718321 Question Type : MCQ Option Shuffling : Yes Display Question Number : Yes Single Line Question Option : No Option Orientation : Vertical

Correct Marks : 1 Wrong Marks : 0.25

The letters E, O, T, U, N & G are numbered 1, 2, 3, 4, 5 & 6 respectively. Select that combination of numbers so that letters arranged accordingly, form a meaningful word.

Options :

1. ✘ 643125
2. ✘ 524361

3. ✖ 654231

4. ✔ 325641

Question Number : 17 Question Id : 99836718321 Question Type : MCQ Option Shuffling : Yes Display Question Number : Yes Single Line Question Option : No Option Orientation : Vertical

Correct Marks : 1 Wrong Marks : 0.25

अक्षर E, O, T, U, N और G क्रमशः 1, 2, 3, 4, 5 और 6 अंक हैं। संख्याओं के उस संयोजन का चयन करें ताकि अक्षरों के अनुसार व्यवस्थित हो और एक सार्थक शब्द बन सके।

Options :

1. ✖ 643125

2. ✖ 524361

3. ✖ 654231

4. ✔ 325641

Question Number : 18 Question Id : 99836718322 Question Type : MCQ Option Shuffling : Yes Display Question Number : Yes Single Line Question Option : No Option Orientation : Vertical

Correct Marks : 1 Wrong Marks : 0.25

The statements below are followed by two conclusions labelled I and II . Assuming that the information in the statements is true, even if it appears to be at variance with generally established facts, decide which conclusion (s) logically and definitely follow(s) from the information given in the statements.

Statements:

I. All doctors are singers.

II. All singers are counsellors.

Conclusions:

I. Some counsellors are singers.

II. Some doctors are counsellors.

Options :

1. ✖ Only conclusion I follows

2. ✖ Only conclusion II follows

3. ✔ Both conclusion I & II follows

4. ✖ Neither conclusion I nor II follows

Question Number : 18 Question Id : 99836718322 Question Type : MCQ Option Shuffling : Yes Display Question Number : Yes Single Line Question Option : No Option Orientation : Vertical

Correct Marks : 1 Wrong Marks : 0.25

नीचे दिए गए कथनों में I और II लेबल के दो निष्कर्ष दिए गए हैं। यह मानते हुए कि कथनों में जानकारी सत्य है, भले ही यह आम तौर पर स्थापित तथ्यों से अलग प्रतीत होता है यह निश्चित करें कि कौन-सा/से निष्कर्ष दिए गए कथन का तर्कपूर्ण रूप से अनुसरण करता है/करते हैं।

कथन:

I. सभी चिकित्सक गायक हैं।

II. सभी गायक परामर्शदाता हैं।

निष्कर्ष:

I. कुछ परामर्शदाता गायक हैं।

II. कुछ चिकित्सक परामर्शदाता हैं।

Options :

1. ✖ केवल निष्कर्ष I अनुसरण करता है

2. ✖ केवल निष्कर्ष II अनुसरण करता है

3. ✔ दोनों निष्कर्ष I और II अनुसरण करते हैं

4. ✖ न तो निष्कर्ष I और न ही II अनुसरण करता है

Question Number : 19 Question Id : 99836718323 Question Type : MCQ Option Shuffling : Yes Display Question Number : Yes
Single Line Question Option : No Option Orientation : Vertical

Correct Marks : 1 Wrong Marks : 0.25

Read the given statement and conclusions carefully and decide which of the conclusions logically follow(s) from the statement.

Statement: More parents are now giving more pocket money to children below the age of 12 years.

Conclusion I : Spending power of children below the age of 12 years segment has increased.

Conclusion II : Children of this generation are more conservative as compared to children of earlier generation.

Options :

1. ✓ Only conclusion I follows
2. ✗ Only conclusion II follows
3. ✗ Both conclusion I & II follows
4. ✗ Neither conclusion I nor II follows

Question Number : 19 Question Id : 99836718323 Question Type : MCQ Option Shuffling : Yes Display Question Number : Yes
Single Line Question Option : No Option Orientation : Vertical

Correct Marks : 1 Wrong Marks : 0.25

दिए गए कथन और निष्कर्ष को ध्यान से पढ़ें और निर्णय लें कि कथन में से कौन-सा/से निष्कर्ष दिए गए कथन का तर्कपूर्ण रूप से अनुसरण करता है/करते हैं।

कथन: 12 वर्ष से कम उम्र के बच्चों को अब अधिक माता-पिता अधिक जेब खर्च दे रहे हैं।

निष्कर्ष I: 12 वर्ष से कम उम्र के बच्चों के वर्ग की खर्च करने की शक्ति में वृद्धि हुई है।

निष्कर्ष II: पिछली पीढ़ी के बच्चों की तुलना में इस पीढ़ी के बच्चे अधिक रूढ़िवादी हैं।

Options :

1. ✓ केवल निष्कर्ष I अनुसरण करता है
2. ✗ केवल निष्कर्ष II अनुसरण करता है
3. ✗ दोनों निष्कर्ष I और II अनुसरण करते हैं
4. ✗ न तो निष्कर्ष I और न ही II अनुसरण करता है

Question Number : 20 Question Id : 99836718324 Question Type : MCQ Option Shuffling : Yes Display Question Number : Yes
Single Line Question Option : No Option Orientation : Vertical

Correct Marks : 1 Wrong Marks : 0.25

Which two signs should be interchanged to make the below equation mathematically correct?

$$8 \times 3 + 24 \div 6 - 5 = 25$$

Options :

1. ✓ -, ×
2. ✗ -, ÷
3. ✗ +, ÷
4. ✗ -, +

Question Number : 20 Question Id : 99836718324 Question Type : MCQ Option Shuffling : Yes Display Question Number : Yes
Single Line Question Option : No Option Orientation : Vertical

Correct Marks : 1 Wrong Marks : 0.25

नीचे दिए गए समीकरण को गणितीय रूप से सही बनाने के लिए किन दो चिन्हों को परस्पर स्थानांतरित करना चाहिए?

$$8 \times 3 + 24 \div 6 - 5 = 25$$

Options :

1. ✓ -, ×
2. ✗ -, ÷
3. ✗ +, ÷
4. ✗ -, +

Mental Ability2

Group Number :	2
Group Id :	998367651
Group Maximum Duration :	0
Group Minimum Duration :	0
Revisit allowed for view? :	No
Revisit allowed for edit? :	No
Break time:	0
Group Marks:	20
Revisit allowed for group Instructions? :	Yes
Maximum Instruction Time:	0
Minimum Instruction Time:	0

Mental Ability2

Section Id :	998367772
Section Number :	1
Section type :	Online
Mandatory or Optional:	Mandatory
Number of Questions:	20
Number of Questions to be attempted:	20
Section Marks:	20
Display Number Panel:	Yes
Group All Questions:	No

Sub-Section Number:	1
Sub-Section Id:	998367984
Question Shuffling Allowed :	Yes

Question Number : 21 Question Id : 99836718325 Question Type : MCQ Option Shuffling : Yes Display Question Number : Yes Single Line Question Option : No Option Orientation : Vertical

Correct Marks : 1 Wrong Marks : 0.25

Which two numbers should be interchanged to make the below equation mathematically correct?

$$12 + 6 \times 3 - 48 \div 4 = 20$$

Options :

1. ✓ 3,4
2. ✗ 6,12
3. ✗ 4,12
4. ✗ 12,48

Question Number : 21 Question Id : 99836718325 Question Type : MCQ Option Shuffling : Yes Display Question Number : Yes Single Line Question Option : No Option Orientation : Vertical

Correct Marks : 1 Wrong Marks : 0.25

नीचे दिए गए समीकरण को गणितीय रूप से सही बनाने के लिए किन दो संख्याओं को परस्पर स्थानांतरित किया जाना चाहिए?

$$12 + 6 \times 3 - 48 \div 4 = 20$$

Options :

1. ✓ 3,4
2. ✗ 6,12
3. ✗ 4,12
4. ✗ 12,48

Question Number : 22 Question Id : 99836718326 Question Type : MCQ Option Shuffling : Yes Display Question Number : Yes Single Line Question Option : No Option Orientation : Vertical

Correct Marks : 1 Wrong Marks : 0.25

Select the option that is related to the third term in the same way as the second term is related to the first term.

$$36 : 50 :: 256 : ?$$

Options :

1. ✗ 280
2. ✓ 290
3. ✗ 300
4. ✗ 270

Question Number : 22 Question Id : 99836718326 Question Type : MCQ Option Shuffling : Yes Display Question Number : Yes Single Line Question Option : No Option Orientation : Vertical

Correct Marks : 1 Wrong Marks : 0.25

उस विकल्प का चयन करें जो तीसरे पद से उसी प्रकार से संबंधित है जिस प्रकार से दूसरा पद पहले पद से संबंधित है।

$$36 : 50 :: 256 : ?$$

Options :

1. ✗ 280
2. ✓ 290
3. ✗ 300
4. ✗ 270

Question Number : 23 Question Id : 99836718327 Question Type : MCQ Option Shuffling : Yes Display Question Number : Yes Single Line Question Option : No Option Orientation : Vertical

Correct Marks : 1 Wrong Marks : 0.25

A number series is given here, only one number is WRONG in the series, find out the wrong number:

$$124, 215, 344, 511, 728, 999$$

Options :

1. ✗ 511
2. ✗ 999
3. ✓ 344
4. ✗ 215

Question Number : 23 Question Id : 99836718327 Question Type : MCQ Option Shuffling : Yes Display Question Number : Yes Single Line Question Option : No Option Orientation : Vertical

Correct Marks : 1 Wrong Marks : 0.25

यहाँ संख्या की श्रृंखला दी गई है, श्रृंखला में केवल एक संख्या गलत है, गलत संख्या को ज्ञात करें

124, 215, 344, 511, 728, 999

Options :

1. ✘ 511
2. ✘ 999
3. ✔ 344
4. ✘ 215

Question Number : 24 Question Id : 99836718328 Question Type : MCQ Option Shuffling : Yes Display Question Number : Yes
Single Line Question Option : No Option Orientation : Vertical

Correct Marks : 1 Wrong Marks : 0.25

Out of the given options, three are similar in a certain manner. However, one option is NOT like the other three. Select the option which is different from the rest.

Options :

1. ✘ 120
2. ✔ 100
3. ✘ 60
4. ✘ 90

Question Number : 24 Question Id : 99836718328 Question Type : MCQ Option Shuffling : Yes Display Question Number : Yes
Single Line Question Option : No Option Orientation : Vertical

Correct Marks : 1 Wrong Marks : 0.25

दिए गए विकल्पों में से, तीन एक निश्चित तरीके से समान हैं। हालाँकि, एक विकल्प अन्य तीन की तरह नहीं है। उस विकल्प का चयन करें जो बाकी से अलग है।

Options :

1. ✘ 120
2. ✔ 100
3. ✘ 60
4. ✘ 90

Question Number : 25 Question Id : 99836718329 Question Type : MCQ Option Shuffling : Yes Display Question Number : Yes
Single Line Question Option : No Option Orientation : Vertical

Correct Marks : 1 Wrong Marks : 0.25

Complete the following number series:

35, 48, 63, 80, 99, _____

Options :

1. ✘ 121
2. ✘ 122
3. ✔ 120
4. ✘ 123

Question Number : 25 Question Id : 99836718329 Question Type : MCQ Option Shuffling : Yes Display Question Number : Yes
Single Line Question Option : No Option Orientation : Vertical

Correct Marks : 1 Wrong Marks : 0.25

निम्नलिखित संख्या श्रृंखला को पूरा करें

35, 48, 63, 80, 99, _____

Options :

1. ✘ 121
2. ✘ 122
3. ✔ 120
4. ✘ 123

Question Number : 26 Question Id : 99836718330 Question Type : MCQ Option Shuffling : Yes Display Question Number : Yes
Single Line Question Option : No Option Orientation : Vertical

Correct Marks : 1 Wrong Marks : 0.25

Select the option that is related to the third term on the same basis as the second term is related to the first term.

222 : 1998 :: 407 : ?

Options :

1. ✔ 3663
2. ✘ 1889
3. ✘ 1881
4. ✘ 6336

Question Number : 26 Question Id : 99836718330 Question Type : MCQ Option Shuffling : Yes Display Question Number : Yes
Single Line Question Option : No Option Orientation : Vertical

Correct Marks : 1 Wrong Marks : 0.25

उस विकल्प का चयन करें जो तीसरे पद से उसी प्रकार से संबंधित है जिस प्रकार से दूसरा पद पहले पद से संबंधित है।

222 : 1998 :: 407 : ?

Options :

1. ✔ 3663
2. ✘ 1889
3. ✘ 1881
4. ✘ 6336

Question Number : 27 Question Id : 99836718331 Question Type : MCQ Option Shuffling : Yes Display Question Number : Yes
Single Line Question Option : No Option Orientation : Vertical

Correct Marks : 1 Wrong Marks : 0.25

Find the missing number in the given number series.

1, 1, 2, 3, ?, 8, 13

Options :

1. ✔ 5
2. ✘ 4
3. ✘ 6
4. ✘ 7

Question Number : 27 Question Id : 99836718331 Question Type : MCQ Option Shuffling : Yes Display Question Number : Yes
Single Line Question Option : No Option Orientation : Vertical

Correct Marks : 1 Wrong Marks : 0.25

दी गई संख्या श्रृंखला में लुप्त संख्या को ज्ञात करें।

1, 1, 2, 3, ?, 8, 13

Options :

1. ✔ 5

2. ✖ 4
3. ✖ 6
4. ✖ 7

Question Number : 28 Question Id : 99836718332 Question Type : MCQ Option Shuffling : Yes Display Question Number : Yes
Single Line Question Option : No Option Orientation : Vertical

Correct Marks : 1 Wrong Marks : 0.25

If $4\#2 = 16$, $2\#6 = 24$, $1\#7 = 14$ then find the value of $5\#3$.

Options :

1. ✔ 30
2. ✖ 15
3. ✖ 8
4. ✖ 20

Question Number : 28 Question Id : 99836718332 Question Type : MCQ Option Shuffling : Yes Display Question Number : Yes
Single Line Question Option : No Option Orientation : Vertical

Correct Marks : 1 Wrong Marks : 0.25

यदि $4\#2 = 16$, $2\#6 = 24$, $1\#7 = 14$ है तो $5\#3$ का मूल्य ज्ञात करो

Options :

1. ✔ 30
2. ✖ 15
3. ✖ 8
4. ✖ 20

Question Number : 29 Question Id : 99836718333 Question Type : MCQ Option Shuffling : Yes Display Question Number : Yes
Single Line Question Option : No Option Orientation : Vertical

Correct Marks : 1 Wrong Marks : 0.25

Out of the given number pairs, three are similar in a certain manner. However, one pair is NOT like the other three. Select the pair which is different from the rest.

Options :

1. ✖ 26, 41
2. ✖ 42, 57
3. ✔ 37, 53
4. ✖ 35, 50

Question Number : 29 Question Id : 99836718333 Question Type : MCQ Option Shuffling : Yes Display Question Number : Yes
Single Line Question Option : No Option Orientation : Vertical

Correct Marks : 1 Wrong Marks : 0.25

दिए गए संख्या जोड़ियों में से, तीन एक निश्चित तरीके से समान हैं। हालाँकि, एक जोड़ी अन्य तीन की तरह नहीं है। उस जोड़ी का चयन करें जो बाकियों से अलग हो।

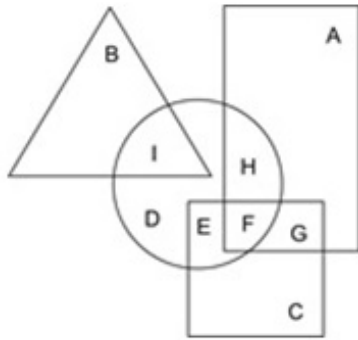
Options :

1. ✖ 26, 41
2. ✖ 42, 57
3. ✔ 37, 53
4. ✖ 35, 50

Question Number : 30 Question Id : 99836718334 Question Type : MCQ Option Shuffling : Yes Display Question Number : Yes
Single Line Question Option : No Option Orientation : Vertical

Correct Marks : 1 Wrong Marks : 0.25

In the following figure, triangle represents consultants, square represents poets, circle represents Indians and rectangle represents women. Which set of letters represents Indians who are poets?



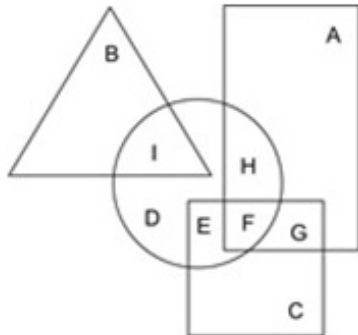
Options :

1. ✓ EF
2. ✗ HF
3. ✗ ID
4. ✗ AH

Question Number : 30 Question Id : 99836718334 Question Type : MCQ Option Shuffling : Yes Display Question Number : Yes Single Line Question Option : No Option Orientation : Vertical

Correct Marks : 1 Wrong Marks : 0.25

निम्नलिखित आकृति में, त्रिकोण सलाहकारों को दर्शाता है, वर्ग कवियों को दर्शाता है, वृत्त भारतीयों को दर्शाता है और आयत महिलाओं को दर्शाता है। अक्षरों का कौन सा सेट भारतीयों को दर्शाता है जो कवि हैं?



Options :

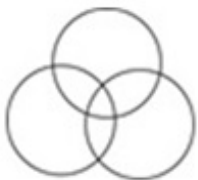
1. ✓ EF
2. ✗ HF
3. ✗ ID
4. ✗ AH

Question Number : 31 Question Id : 99836718335 Question Type : MCQ Option Shuffling : Yes Display Question Number : Yes Single Line Question Option : No Option Orientation : Vertical

Correct Marks : 1 Wrong Marks : 0.25

Which of the following Venn diagrams best represents the relationship between horses, mammals and domestic animals?

Options :



1. ✗

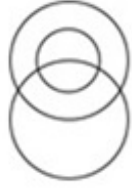
2. ✘



3. ✘



4. ✔



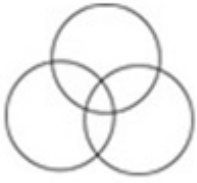
Question Number : 31 Question Id : 99836718335 Question Type : MCQ Option Shuffling : Yes Display Question Number : Yes
Single Line Question Option : No Option Orientation : Vertical

Correct Marks : 1 Wrong Marks : 0.25

निम्न में से कौन सा वेन आरेख घोड़ों, स्तनधारियों और पालतू पशुओं के बीच के संबंध को सबसे अच्छा दर्शाता है?

Options :

1. ✘



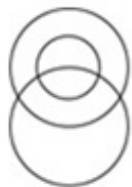
2. ✘



3. ✘



4. ✔



Question Number : 32 Question Id : 99836718336 Question Type : MCQ Option Shuffling : Yes Display Question Number : Yes
Single Line Question Option : No Option Orientation : Vertical

Correct Marks : 1 Wrong Marks : 0.25

A footballer is practicing on a field. He is facing South-East direction. He then turns 135 degree in the anti-clockwise direction, then 90 degree in the clockwise direction and then turns 90 degrees to his right. Which direction is he facing now?

Options :

- ✘ North
- ✘ East
- ✘ West
- ✔ South

Question Number : 32 Question Id : 99836718336 Question Type : MCQ Option Shuffling : Yes Display Question Number : Yes Single Line Question Option : No Option Orientation : Vertical

Correct Marks : 1 Wrong Marks : 0.25

एक फुटबॉल खिलाड़ी एक मैदान पर अभ्यास कर रहा है। उसका मुंह दक्षिण-पूर्व दिशा की ओर है। वह वामावर्त दिशा में 135 डिग्री, फिर दक्षिणावर्त दिशा में 90 डिग्री और उसके बाद अपनी दाईं ओर 90 डिग्री पर मुड़ जाता है। अब उसका मुंह किस दिशा में है?

Options :

- ✘ उत्तर
- ✘ पूर्व
- ✘ पश्चिम
- ✔ दक्षिण

Question Number : 33 Question Id : 99836718337 Question Type : MCQ Option Shuffling : Yes Display Question Number : Yes Single Line Question Option : No Option Orientation : Vertical

Correct Marks : 1 Wrong Marks : 0.25

Two cars C and D start from the same point on a highway. Car C travels North 27 km and then turns right and travels 13 km. In the meanwhile car D travels 11 km South, then 13 km West, then 14 km South, then it turns left and travels 26 km. Where is car C with respect to car D?

Options :

- ✘ 18 km South
- ✘ 18 km North
- ✘ 52 km South
- ✔ 52 km North

Question Number : 33 Question Id : 99836718337 Question Type : MCQ Option Shuffling : Yes Display Question Number : Yes Single Line Question Option : No Option Orientation : Vertical

Correct Marks : 1 Wrong Marks : 0.25

दो कारें C और D एक राजमार्ग पर एक ही बिंदु से शुरू होती हैं। कार C उत्तर में 27 km की यात्रा करती है और फिर दाएं मुड़ती है और 13 km की यात्रा करती है। इस बीच में कार D 11 km दक्षिण, फिर 13 km पश्चिम, फिर 14 km दक्षिण, फिर बाईं ओर मुड़ती है और 26 km की यात्रा करती है। कार D के संबंध में कार C कहाँ है?

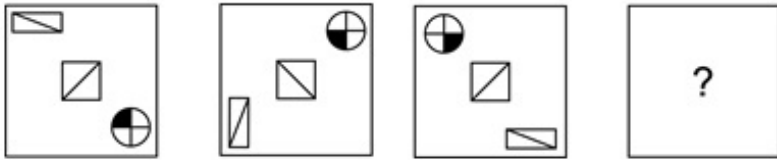
Options :

- ✘ 18 km दक्षिण
- ✘ 18 km उत्तर
- ✘ 52 km दक्षिण
- ✔ 52 km उत्तर

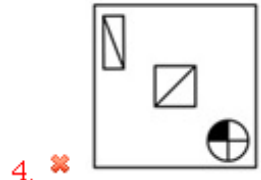
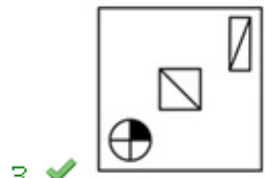
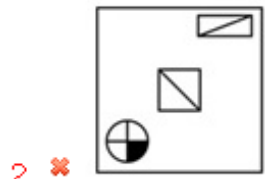
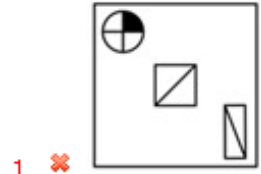
Question Number : 34 Question Id : 99836718338 Question Type : MCQ Option Shuffling : Yes Display Question Number : Yes Single Line Question Option : No Option Orientation : Vertical

Correct Marks : 1 Wrong Marks : 0.25

Choose the option which completes the series given in the question figure.



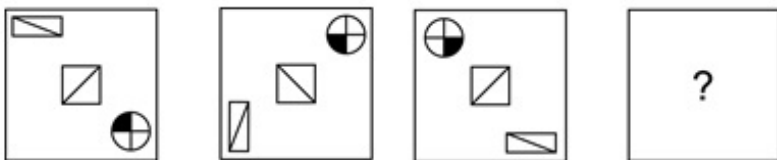
Options :



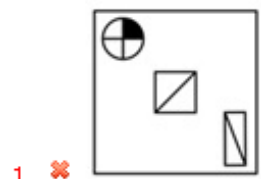
Question Number : 34 Question Id : 99836718338 Question Type : MCQ Option Shuffling : Yes Display Question Number : Yes
Single Line Question Option : No Option Orientation : Vertical

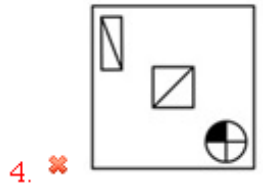
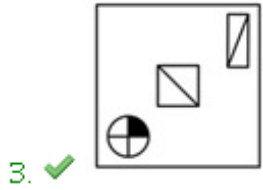
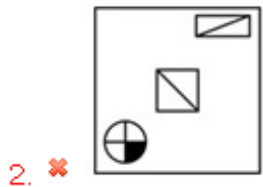
Correct Marks : 1 Wrong Marks : 0.25

वह विकल्प चुनें जो प्रश्न आकृति में दी गई श्रृंखला को पूरा करती है।



Options :

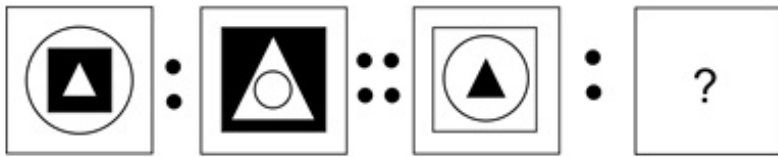




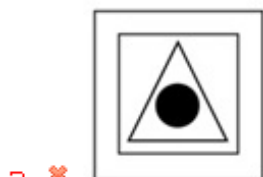
Question Number : 35 Question Id : 99836718339 Question Type : MCQ Option Shuffling : Yes Display Question Number : Yes Single Line Question Option : No Option Orientation : Vertical

Correct Marks : 1 Wrong Marks : 0.25

Select the image that is related to the third image on the same basis as the second image is related to the first image.



Options :



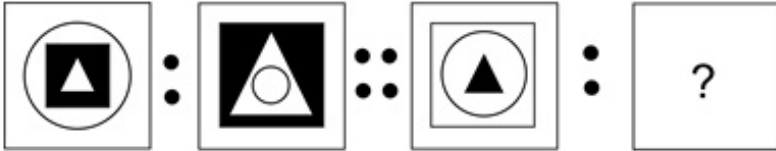
4. ✘



Question Number : 35 Question Id : 99836718339 Question Type : MCQ Option Shuffling : Yes Display Question Number : Yes Single Line Question Option : No Option Orientation : Vertical

Correct Marks : 1 Wrong Marks : 0.25

उस छवि का चयन करें जो तीसरी छवि से उसी प्रकार से संबंधित है जिस प्रकार से दूसरी छवि पहली छवि से संबंधित है



Options :

1. ✘



2. ✔



3. ✘



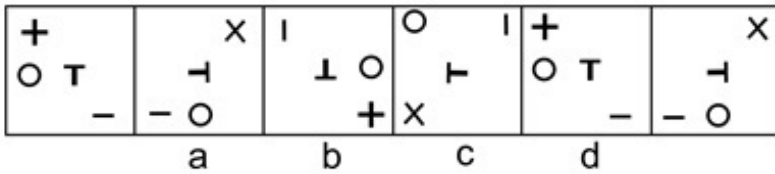
4. ✘



Question Number : 36 Question Id : 99836718340 Question Type : MCQ Option Shuffling : Yes Display Question Number : Yes Single Line Question Option : No Option Orientation : Vertical

Correct Marks : 1 Wrong Marks : 0.25

A figure series of 6 parts is given. Out of these 4 parts are labelled A,B, C and D. One of these 4 parts is incorrect. Find the incorrect part.



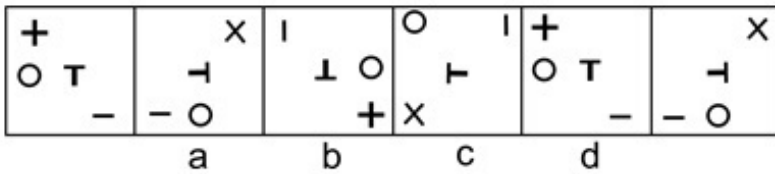
Options :

1. ✘ A
2. ✘ B
3. ✔ C
4. ✘ D

Question Number : 36 Question Id : 99836718340 Question Type : MCQ Option Shuffling : Yes Display Question Number : Yes Single Line Question Option : No Option Orientation : Vertical

Correct Marks : 1 Wrong Marks : 0.25

6 भागों की एक आकृति श्रृंखला दी गई है इन 4 भागों में से A, B, C और D को लेबल किया गया है इना 4 भागों में से एक गलत है गलत भाग को ज्ञात करे



Options :

1. ✘ A
2. ✘ B
3. ✔ C
4. ✘ D

Question Number : 37 Question Id : 99836718341 Question Type : MCQ Option Shuffling : Yes Display Question Number : Yes Single Line Question Option : No Option Orientation : Vertical

Correct Marks : 1 Wrong Marks : 0.25

If a cube is painted green on all sides and if it is cut into 27 smaller cubes then how many such cubes will have 3 sides painted green?

Options :

1. ✘ 12
2. ✔ 8
3. ✘ 6
4. ✘ 16

Question Number : 37 Question Id : 99836718341 Question Type : MCQ Option Shuffling : Yes Display Question Number : Yes Single Line Question Option : No Option Orientation : Vertical

Correct Marks : 1 Wrong Marks : 0.25

यदि एक घन को सभी साइड से हरे रंग में रंगा जाता है और यदि उसे 27 छोटे घनों में काट दिया जाता है, तो ऐसे कितने घन होंगे जिनके 3 साइड हरे रंग में रंगे होंगे?

Options :

1. ✘ 12
2. ✔ 8

3. ✘ 6

4. ✘ 16

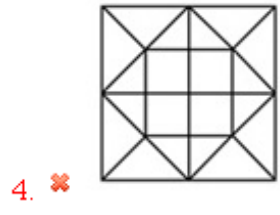
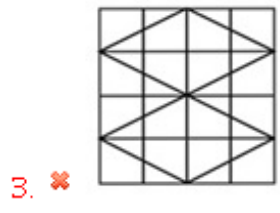
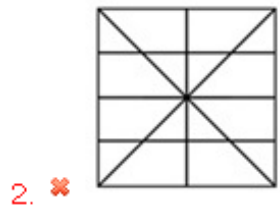
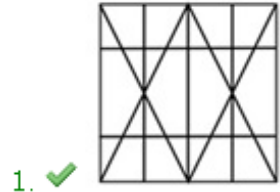
Question Number : 38 Question Id : 99836718342 Question Type : MCQ Option Shuffling : Yes Display Question Number : Yes Single Line Question Option : No Option Orientation : Vertical

Correct Marks : 1 Wrong Marks : 0.25

From the given answer figures, select the one in which the question figure is hidden/embedded.



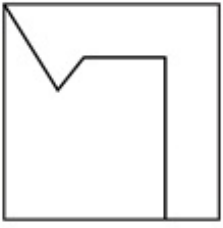
Options :



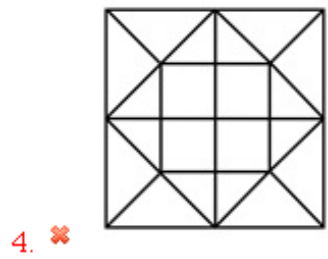
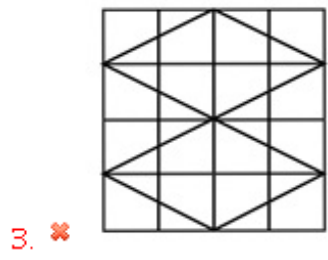
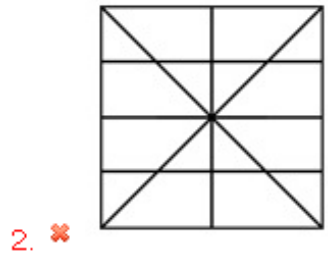
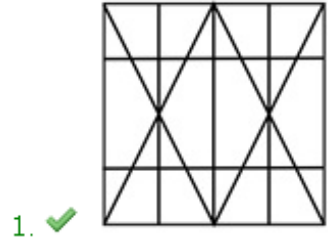
Question Number : 38 Question Id : 99836718342 Question Type : MCQ Option Shuffling : Yes Display Question Number : Yes Single Line Question Option : No Option Orientation : Vertical

Correct Marks : 1 Wrong Marks : 0.25

दी गई उत्तर आकृतियों में से, उस एक का चयन करें जिसमें प्रश्न आकृति निहित है।

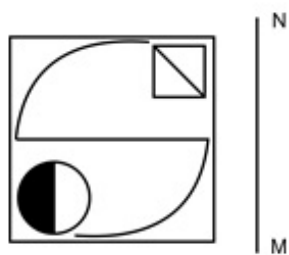


Options :

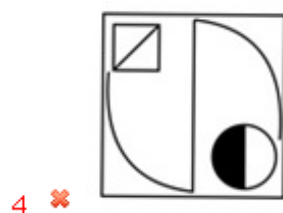
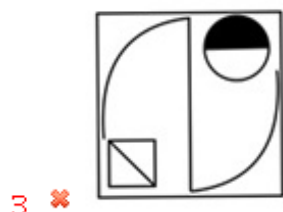
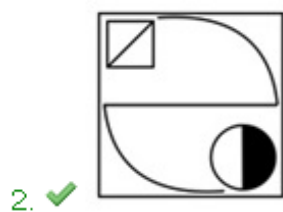


Question Number : 39 Question Id : 99836718343 Question Type : MCQ Option Shuffling : Yes Display Question Number : Yes
Single Line Question Option : No Option Orientation : Vertical
Correct Marks : 1 Wrong Marks : 0.25

If a mirror is placed on the line MN, then which of the answer figures will be the right mirror image of the given figure?



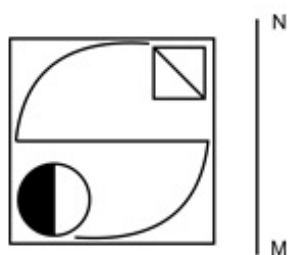
Options :



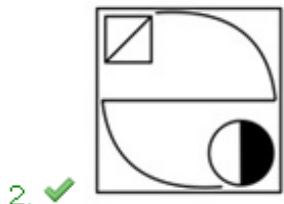
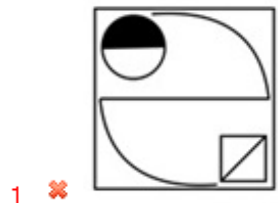
Question Number : 39 Question Id : 99836718343 Question Type : MCQ Option Shuffling : Yes Display Question Number : Yes
Single Line Question Option : No Option Orientation : Vertical

Correct Marks : 1 Wrong Marks : 0.25

यदि एक दर्पण को रेखा MN पर रखा गया है, तो कौन सी उत्तर आकृति दी गई आकृति का सही दर्पण प्रतिबिंब होगा?



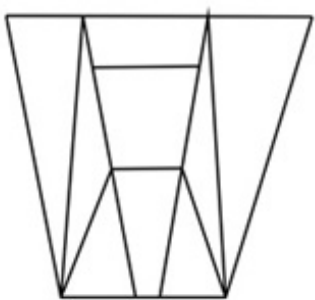
Options :



Question Number : 40 Question Id : 99836718344 Question Type : MCQ Option Shuffling : Yes Display Question Number : Yes Single Line Question Option : No Option Orientation : Vertical

Correct Marks : 1 Wrong Marks : 0.25

What is the minimum number of straight lines required to draw the given figure?



Options :

1. ✘ 10

2. ✘ 11

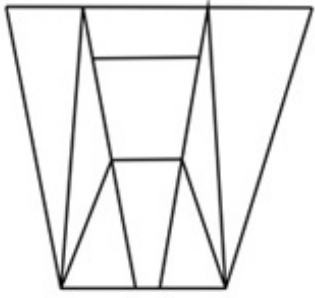
3. ✔ 12

4. ✘ 13

Question Number : 40 Question Id : 99836718344 Question Type : MCQ Option Shuffling : Yes Display Question Number : Yes Single Line Question Option : No Option Orientation : Vertical

Correct Marks : 1 Wrong Marks : 0.25

दी गई आकृति को बनाने के लिए आवश्यक सीधी रेखाओं की न्यूनतम संख्या क्या है?



Options :

1. ✘ 10
2. ✘ 11
3. ✔ 12
4. ✘ 13

General Awareness1

Group Number :	3
Group Id :	998367652
Group Maximum Duration :	0
Group Minimum Duration :	0
Revisit allowed for view? :	No
Revisit allowed for edit? :	No
Break time:	0
Group Marks:	20
Revisit allowed for group Instructions? :	Yes
Maximum Instruction Time:	0
Minimum Instruction Time:	0

General Awareness1

Section Id :	998367773
Section Number :	1
Section type :	Online
Mandatory or Optional:	Mandatory
Number of Questions:	20
Number of Questions to be attempted:	20
Section Marks:	20
Display Number Panel:	Yes
Group All Questions:	No

Sub-Section Number:	1
Sub-Section Id:	998367985
Question Shuffling Allowed :	Yes

Question Number : 41 Question Id : 99836718345 Question Type : MCQ Option Shuffling : Yes Display Question Number : Yes
Single Line Question Option : No Option Orientation : Vertical

Correct Marks : 1 Wrong Marks : 0.25

The performance of Alkap has _____ interesting parts and often conveys the living conditions of rural Bengal.

Options :

1. ✘ six
2. ✘ four
3. ✘ three
4. ✔ five

Question Number : 41 Question Id : 99836718345 Question Type : MCQ Option Shuffling : Yes Display Question Number : Yes
Single Line Question Option : No Option Orientation : Vertical

Correct Marks : 1 Wrong Marks : 0.25

अल्काप के प्रदर्शन में _____ रोचक भाग हैं और अक्सर ग्रामीण बंगाल की रहने की स्थिति सूचित करता है।

Options :

1. ✘ छह
2. ✘ चार
3. ✘ तीन
4. ✔ पांच

Question Number : 42 Question Id : 99836718346 Question Type : MCQ Option Shuffling : Yes Display Question Number : Yes
Single Line Question Option : No Option Orientation : Vertical

Correct Marks : 1 Wrong Marks : 0.25

Performed mainly by the women folk, _____ is usually sung during childbirth.

Options :

1. ✔ Sohar
2. ✘ Domkach
3. ✘ Panihari
4. ✘ Jhumar

Question Number : 42 Question Id : 99836718346 Question Type : MCQ Option Shuffling : Yes Display Question Number : Yes
Single Line Question Option : No Option Orientation : Vertical

Correct Marks : 1 Wrong Marks : 0.25

मुख्य रूप से महिलाओं द्वारा प्रदर्शित किया जाता है, आमतौर पर बच्चे के जन्म के दौरान _____ गाया जाता है।

Options :

1. ✔ सोहर
2. ✘ डमकच
3. ✘ पनिहारी
4. ✘ झूमर

Question Number : 43 Question Id : 99836718347 Question Type : MCQ Option Shuffling : Yes Display Question Number : Yes
Single Line Question Option : No Option Orientation : Vertical

Correct Marks : 1 Wrong Marks : 0.25

Chhath Puja is celebrated after one week of Diwali to worship God _____ at the bank of river or pond.

Options :

1. ✔ Sun
2. ✘ Moon
3. ✘ Stars
4. ✘ Rain

Question Number : 43 Question Id : 99836718347 Question Type : MCQ Option Shuffling : Yes Display Question Number : Yes
Single Line Question Option : No Option Orientation : Vertical

Correct Marks : 1 Wrong Marks : 0.25

दिवाली के एक सप्ताह बाद नदी या तालाब के किनारे _____ भगवान की पूजा करने के लिए छठ पूजा मनाई जाती है।

Options :

1. ✓ सूर्य
2. ✗ चंद्र
3. ✗ तारे
4. ✗ बारिश

Question Number : 44 Question Id : 99836718348 Question Type : MCQ Option Shuffling : Yes Display Question Number : Yes
Single Line Question Option : No Option Orientation : Vertical

Correct Marks : 1 Wrong Marks : 0.25

The famous Elephanta Caves were built by _____ .

Options :

1. ✗ Cholas
2. ✗ Palas
3. ✓ Rashtrakutas
4. ✗ Guptas

Question Number : 44 Question Id : 99836718348 Question Type : MCQ Option Shuffling : Yes Display Question Number : Yes
Single Line Question Option : No Option Orientation : Vertical

Correct Marks : 1 Wrong Marks : 0.25

प्रसिद्ध एलिफेंटा गुफाएं _____ द्वारा बनाई गई थीं।

Options :

1. ✗ चोल
2. ✗ पलास
3. ✓ राष्ट्रकूट
4. ✗ गुप्ता

Question Number : 45 Question Id : 99836718349 Question Type : MCQ Option Shuffling : Yes Display Question Number : Yes
Single Line Question Option : No Option Orientation : Vertical

Correct Marks : 1 Wrong Marks : 0.25

_____ was the first bank to open its branch in China.

Options :

1. ✗ Bank of India
2. ✗ Central Bank of India
3. ✗ Canara Bank
4. ✓ State Bank of India

Question Number : 45 Question Id : 99836718349 Question Type : MCQ Option Shuffling : Yes Display Question Number : Yes
Single Line Question Option : No Option Orientation : Vertical

Correct Marks : 1 Wrong Marks : 0.25

_____ चीन में अपनी शाखा खोलने वाला पहला बैंक था।

Options :

1. ✗ बैंक ऑफ इंडिया
2. ✗ सेंट्रल बैंक ऑफ इंडिया
3. ✗ केनरा बैंक
4. ✓ भारतीय स्टेट बैंक

Question Number : 46 Question Id : 99836718350 Question Type : MCQ Option Shuffling : Yes Display Question Number : Yes
Single Line Question Option : No Option Orientation : Vertical

Correct Marks : 1 Wrong Marks : 0.25

Gross National Product = Gross Domestic Product + _____ .

Options :

1. ✘ Depreciation
2. ✘ Indirect taxes
3. ✔ Net Factor Income from Abroad
4. ✘ Subsidy

Question Number : 46 Question Id : 99836718350 Question Type : MCQ Option Shuffling : Yes Display Question Number : Yes
Single Line Question Option : No Option Orientation : Vertical

Correct Marks : 1 Wrong Marks : 0.25

सकल राष्ट्रीय उत्पाद = सकल घरेलू उत्पाद + _____।

Options :

1. ✘ मूल्यहास
2. ✘ अप्रत्यक्ष कर
3. ✔ विदेश से निवल कारक आय
4. ✘ राजसहायता

Question Number : 47 Question Id : 99836718351 Question Type : MCQ Option Shuffling : Yes Display Question Number : Yes
Single Line Question Option : No Option Orientation : Vertical

Correct Marks : 1 Wrong Marks : 0.25

When was the Interim Budget of 2019-20 presented?

Options :

1. ✔ 1st Feb 2019
2. ✘ 1st March 2019
3. ✘ 1st Jan 2019
4. ✘ 1st April 2019

Question Number : 47 Question Id : 99836718351 Question Type : MCQ Option Shuffling : Yes Display Question Number : Yes
Single Line Question Option : No Option Orientation : Vertical

Correct Marks : 1 Wrong Marks : 0.25

2019-20 का अंतरिम बजट कब पेश किया गया था?

Options :

1. ✔ 1 फरवरी 2019
2. ✘ 1 मार्च 2019
3. ✘ 1 जनवरी 2019
4. ✘ 1 अप्रैल 2019

Question Number : 48 Question Id : 99836718352 Question Type : MCQ Option Shuffling : Yes Display Question Number : Yes
Single Line Question Option : No Option Orientation : Vertical

Correct Marks : 1 Wrong Marks : 0.25

Motion of aeroplane is an example of _____ motion.

Options :

1. ✘ circular
2. ✘ linear
3. ✘ random
4. ✔ translatory

Question Number : 48 Question Id : 99836718352 Question Type : MCQ Option Shuffling : Yes Display Question Number : Yes
Single Line Question Option : No Option Orientation : Vertical

Correct Marks : 1 Wrong Marks : 0.25

हवाई जहाज की गति _____ गति का एक उदाहरण है।

Options :

1. ✘ परिपत्र
2. ✘ रेखिक
3. ✘ यादृच्छिक
4. ✔ रूपांतरित

Question Number : 49 Question Id : 99836718353 Question Type : MCQ Option Shuffling : Yes Display Question Number : Yes
Single Line Question Option : No Option Orientation : Vertical

Correct Marks : 1 Wrong Marks : 0.25

What is the chemical name of washing soda?

Options :

1. ✔ Sodium carbonate
2. ✘ Calcium carbonate
3. ✘ Aluminium oxide
4. ✘ Sodium hydroxide

Question Number : 49 Question Id : 99836718353 Question Type : MCQ Option Shuffling : Yes Display Question Number : Yes
Single Line Question Option : No Option Orientation : Vertical

Correct Marks : 1 Wrong Marks : 0.25

वाशिंग सोडा का रासायनिक नाम क्या है?

Options :

1. ✔ सोडियम कार्बोनेट
2. ✘ कैल्शियम कार्बोनेट
3. ✘ एल्युमिनियम आक्साइड
4. ✘ सोडियम हाइड्रॉक्साइड

Question Number : 50 Question Id : 99836718354 Question Type : MCQ Option Shuffling : Yes Display Question Number : Yes
Single Line Question Option : No Option Orientation : Vertical

Correct Marks : 1 Wrong Marks : 0.25

_____ is commonly known as sea walnuts.

Options :

1. ✘ Aschelminthes
2. ✔ Ctenophora
3. ✘ Annelida
4. ✘ Cnidaria

Question Number : 50 Question Id : 99836718354 Question Type : MCQ Option Shuffling : Yes Display Question Number : Yes
Single Line Question Option : No Option Orientation : Vertical

Correct Marks : 1 Wrong Marks : 0.25

_____ को आम तौर पर समुद्री अखरोट के नाम से जाना जाता है।

Options :

1. ✘ एस्केलमिंथस
2. ✔ टिनोफोरा
3. ✘ ऐनेलिडा
4. ✘ निडारिया

Question Number : 51 Question Id : 99836718355 Question Type : MCQ Option Shuffling : Yes Display Question Number : Yes
Single Line Question Option : No Option Orientation : Vertical

Correct Marks : 1 Wrong Marks : 0.25

Volvox is a commonly found _____ algae.

Options :

1. ✘ red
2. ✘ blue
3. ✔ green
4. ✘ brown

Question Number : 51 Question Id : 99836718355 Question Type : MCQ Option Shuffling : Yes Display Question Number : Yes
Single Line Question Option : No Option Orientation : Vertical

Correct Marks : 1 Wrong Marks : 0.25

वॉलवॉक्स एक आम तौर पाया जाने वाला _____ शैवाल है।

Options :

1. ✘ लाल
2. ✘ नीला
3. ✔ हरा
4. ✘ भूरा

Question Number : 52 Question Id : 99836718356 Question Type : MCQ Option Shuffling : Yes Display Question Number : Yes
Single Line Question Option : No Option Orientation : Vertical

Correct Marks : 1 Wrong Marks : 0.25

The upper most layer of the atmosphere is _____.

Options :

1. ✔ exosphere
2. ✘ mesosphere
3. ✘ stratosphere
4. ✘ thermosphere

Question Number : 52 Question Id : 99836718356 Question Type : MCQ Option Shuffling : Yes Display Question Number : Yes
Single Line Question Option : No Option Orientation : Vertical

Correct Marks : 1 Wrong Marks : 0.25

वायुमंडल की सबसे ऊपरी परत _____ है।

Options :

1. ✔ बाह्यमंडल
2. ✘ मध्यमंडल
3. ✘ समतापमंडल
4. ✘ तापमंडल

Question Number : 53 Question Id : 99836718357 Question Type : MCQ Option Shuffling : Yes Display Question Number : Yes
Single Line Question Option : No Option Orientation : Vertical

Correct Marks : 1 Wrong Marks : 0.25

The rural component of the Swachh Bharat Mission is implemented by _____.

Options :

1. ✘ Ministry of External Affairs
2. ✘ Minister of Social Justice and Empowerment
3. ✘ Ministry of Home Affairs

4. ✓ Ministry of Drinking Water and Sanitation

Question Number : 53 Question Id : 99836718357 Question Type : MCQ Option Shuffling : Yes Display Question Number : Yes
Single Line Question Option : No Option Orientation : Vertical

Correct Marks : 1 Wrong Marks : 0.25

स्वच्छ भारत मिशन का ग्रामीण घटक _____ द्वारा कार्यान्वित किया गया है।

Options :

1. ✗ विदेश मंत्रालय
2. ✗ सामाजिक न्याय एवं सशक्तिकरण मंत्रालय
3. ✗ गृह मंत्रालय
4. ✓ पेयजल और स्वच्छता मंत्रालय

Question Number : 54 Question Id : 99836718358 Question Type : MCQ Option Shuffling : Yes Display Question Number : Yes
Single Line Question Option : No Option Orientation : Vertical

Correct Marks : 1 Wrong Marks : 0.25

Only _____ of all the water on Earth is fresh water.

Options :

1. ✗ 0.0325
2. ✓ 0.025
3. ✗ 0.075
4. ✗ 0.0525

Question Number : 54 Question Id : 99836718358 Question Type : MCQ Option Shuffling : Yes Display Question Number : Yes
Single Line Question Option : No Option Orientation : Vertical

Correct Marks : 1 Wrong Marks : 0.25

पृथ्वी पर स्थित कुल पानी का केवल _____ ताजा पानी है।

Options :

1. ✗ 0.0325
2. ✓ 0.025
3. ✗ 0.075
4. ✗ 0.0525

Question Number : 55 Question Id : 99836718359 Question Type : MCQ Option Shuffling : Yes Display Question Number : Yes
Single Line Question Option : No Option Orientation : Vertical

Correct Marks : 1 Wrong Marks : 0.25

Which among the following disease is not caused by mosquito?

Options :

1. ✗ Dengue
2. ✗ Yellow Fever
3. ✗ West Nile Fever
4. ✓ Rabies

Question Number : 55 Question Id : 99836718359 Question Type : MCQ Option Shuffling : Yes Display Question Number : Yes
Single Line Question Option : No Option Orientation : Vertical

Correct Marks : 1 Wrong Marks : 0.25

निम्नलिखित में से कौन सी बीमारी मच्छर के कारण नहीं होती है?

Options :

1. ✗ डेंगू
2. ✗ पीतज्वर

3. ✘ वेस्ट नाइल ज्वर

4. ✔ रेबीज़

Question Number : 56 Question Id : 99836718360 Question Type : MCQ Option Shuffling : Yes Display Question Number : Yes
Single Line Question Option : No Option Orientation : Vertical

Correct Marks : 1 Wrong Marks : 0.25

Which among the following is not a tributary of Yamuna river?

Options :

1. ✘ Sindh

2. ✘ Betwa

3. ✘ Chambal

4. ✔ Kosi

Question Number : 56 Question Id : 99836718360 Question Type : MCQ Option Shuffling : Yes Display Question Number : Yes
Single Line Question Option : No Option Orientation : Vertical

Correct Marks : 1 Wrong Marks : 0.25

निम्नलिखित में से कौन सी यमुना नदी की एक सहायक नदी नहीं है?

Options :

1. ✘ सिंध

2. ✘ बेतवा

3. ✘ चंबल

4. ✔ कोसी

Question Number : 57 Question Id : 99836718361 Question Type : MCQ Option Shuffling : Yes Display Question Number : Yes
Single Line Question Option : No Option Orientation : Vertical

Correct Marks : 1 Wrong Marks : 0.25

Sunda Strait joins Java sea and _____.

Options :

1. ✘ Arctic Ocean

2. ✔ Indian Ocean

3. ✘ Pacific Ocean

4. ✘ Atlantic Ocean

Question Number : 57 Question Id : 99836718361 Question Type : MCQ Option Shuffling : Yes Display Question Number : Yes
Single Line Question Option : No Option Orientation : Vertical

Correct Marks : 1 Wrong Marks : 0.25

सुन्दा जलसन्धि जावा समुद्र और _____ को जोड़ती है।

Options :

1. ✘ उत्तरध्रुवीय महासागर

2. ✔ हिंद महासागर

3. ✘ प्रशांत महासागर

4. ✘ अटलांटिक महासागर

Question Number : 58 Question Id : 99836718362 Question Type : MCQ Option Shuffling : Yes Display Question Number : Yes
Single Line Question Option : No Option Orientation : Vertical

Correct Marks : 1 Wrong Marks : 0.25

The highest peak of Satpura mountain range is Dhupgarh with an height of 1,350 m in _____.

Options :

1. ✘ Gujarat

2. ✘ Andhra Pradesh
3. ✔ Madhya Pradesh
4. ✘ Maharashtra

Question Number : 58 Question Id : 99836718362 Question Type : MCQ Option Shuffling : Yes Display Question Number : Yes
Single Line Question Option : No Option Orientation : Vertical

Correct Marks : 1 Wrong Marks : 0.25

सतपुड़ा पर्वत श्रृंखला की सबसे ऊंची चोटी, 1,350 m की ऊंचाई वाली धुपगढ़ _____ में स्थित है

Options :

1. ✘ गुजरात
2. ✘ आंध्र प्रदेश
3. ✔ मध्य प्रदेश
4. ✘ महाराष्ट्र

Question Number : 59 Question Id : 99836718363 Question Type : MCQ Option Shuffling : Yes Display Question Number : Yes
Single Line Question Option : No Option Orientation : Vertical

Correct Marks : 1 Wrong Marks : 0.25

Most of the Deccan is occupied by _____

Options :

1. ✔ Black Soil
2. ✘ Red Soil
3. ✘ Alluvial Soil
4. ✘ Laterite Soil

Question Number : 59 Question Id : 99836718363 Question Type : MCQ Option Shuffling : Yes Display Question Number : Yes
Single Line Question Option : No Option Orientation : Vertical

Correct Marks : 1 Wrong Marks : 0.25

अधिकांश दक्कन पर _____ का कब्जा है

Options :

1. ✔ काली मृदा
2. ✘ लाल मृदा
3. ✘ एल्यूवियल मृदा
4. ✘ लैटेराइट मृदा

Question Number : 60 Question Id : 99836718364 Question Type : MCQ Option Shuffling : Yes Display Question Number : Yes
Single Line Question Option : No Option Orientation : Vertical

Correct Marks : 1 Wrong Marks : 0.25

The Kingdom of Bhutan does not share its border with which of the following states?

Options :

1. ✘ Sikkim
2. ✘ Arunachal Pradesh
3. ✔ Nagaland
4. ✘ Assam

Question Number : 60 Question Id : 99836718364 Question Type : MCQ Option Shuffling : Yes Display Question Number : Yes
Single Line Question Option : No Option Orientation : Vertical

Correct Marks : 1 Wrong Marks : 0.25

भूटान साम्राज्य किस राज्य के साथ अपनी सीमा साझा नहीं करता है?

Options :

1. ✘ सिक्किम
2. ✘ अरुणाचल प्रदेश
3. ✔ नागालैंड
4. ✘ असम

General Awareness2

Group Number :	4
Group Id :	998367653
Group Maximum Duration :	0
Group Minimum Duration :	0
Revisit allowed for view? :	No
Revisit allowed for edit? :	No
Break time:	0
Group Marks:	20
Revisit allowed for group Instructions? :	Yes
Maximum Instruction Time:	0
Minimum Instruction Time:	0

General Awareness2

Section Id :	998367774
Section Number :	1
Section type :	Online
Mandatory or Optional:	Mandatory
Number of Questions:	20
Number of Questions to be attempted:	20
Section Marks:	20
Display Number Panel:	Yes
Group All Questions:	No

Sub-Section Number:	1
Sub-Section Id:	998367986
Question Shuffling Allowed :	Yes

Question Number : 61 Question Id : 99836718365 Question Type : MCQ Option Shuffling : Yes Display Question Number : Yes
Single Line Question Option : No Option Orientation : Vertical

Correct Marks : 1 Wrong Marks : 0.25

Apart from Kerala, _____ is a major rubber producing states.

Options :

1. ✔ Tamil Nadu
2. ✘ West Bengal
3. ✘ Bihar
4. ✘ Assam

Question Number : 61 Question Id : 99836718365 Question Type : MCQ Option Shuffling : Yes Display Question Number : Yes
Single Line Question Option : No Option Orientation : Vertical

Correct Marks : 1 Wrong Marks : 0.25

केरल के अलावा, _____ एक प्रमुख रबर उत्पादक राज्य है।

Options :

1. ✓ तमिल नाडु
2. ✗ पश्चिम बंगाल
3. ✗ बिहार
4. ✗ असम

Question Number : 62 Question Id : 99836718366 Question Type : MCQ Option Shuffling : Yes Display Question Number : Yes
Single Line Question Option : No Option Orientation : Vertical

Correct Marks : 1 Wrong Marks : 0.25

On 28 December 1885 Indian National Congress was founded in the premises of Gokuldas Tejpal Sanskrit School at _____.

Options :

1. ✗ New Delhi
2. ✗ Kolkata
3. ✗ Bangalore
4. ✓ Mumbai

Question Number : 62 Question Id : 99836718366 Question Type : MCQ Option Shuffling : Yes Display Question Number : Yes
Single Line Question Option : No Option Orientation : Vertical

Correct Marks : 1 Wrong Marks : 0.25

28 दिसंबर 1885 को भारतीय राष्ट्रीय कांग्रेस की स्थापना _____ में गोकुलदास तेजपाल संस्कृत विद्यालय के परिसर में की गई थी।

Options :

1. ✗ नई दिल्ली
2. ✗ कोलकाता
3. ✗ बैंगलोर
4. ✓ मुंबई

Question Number : 63 Question Id : 99836718367 Question Type : MCQ Option Shuffling : Yes Display Question Number : Yes
Single Line Question Option : No Option Orientation : Vertical

Correct Marks : 1 Wrong Marks : 0.25

Chittagong Armoury Raid was led by revolutionary _____.

Options :

1. ✓ Surya Sen
2. ✗ Mahatma Gandhi
3. ✗ Chandrasekhar Azad
4. ✗ Sachindra Nath Sanyal

Question Number : 63 Question Id : 99836718367 Question Type : MCQ Option Shuffling : Yes Display Question Number : Yes
Single Line Question Option : No Option Orientation : Vertical

Correct Marks : 1 Wrong Marks : 0.25

चटगांव शस्त्रागार छापा का नेतृत्व क्रांतिकारी _____ ने किया था।

Options :

1. ✓ सूर्य सेन
2. ✗ महात्मा गांधी
3. ✗ चंद्रशेखर आज़ाद
4. ✗ शचींद्रनाथ सान्याल

Question Number : 64 Question Id : 99836718368 Question Type : MCQ Option Shuffling : Yes Display Question Number : Yes
Single Line Question Option : No Option Orientation : Vertical

Correct Marks : 1 Wrong Marks : 0.25

_____ is best known as the author of Humayun Namah.

Options :

- ✘ Noor Jahan
- ✔ Gulbadan Begum
- ✘ Mumtaj Mahal
- ✘ Rabia-ul-Daurani

Question Number : 64 Question Id : 99836718368 Question Type : MCQ Option Shuffling : Yes Display Question Number : Yes
Single Line Question Option : No Option Orientation : Vertical

Correct Marks : 1 Wrong Marks : 0.25

_____ को हुमायूँ नमः के लेखक के रूप में जाना जाता है।

Options :

- ✘ नूरजहाँ
- ✔ गुलबदन बेगम
- ✘ मुमताज महल
- ✘ राबिया-उल-दौरानी

Question Number : 65 Question Id : 99836718369 Question Type : MCQ Option Shuffling : Yes Display Question Number : Yes
Single Line Question Option : No Option Orientation : Vertical

Correct Marks : 1 Wrong Marks : 0.25

Who introduced the silver tanka and the copper jital – the two basic coins of the Sultanate period, with a standard weight of 175 grains?

Options :

- ✔ Iltutmish
- ✘ Babur
- ✘ Humayun
- ✘ Jahangir

Question Number : 65 Question Id : 99836718369 Question Type : MCQ Option Shuffling : Yes Display Question Number : Yes
Single Line Question Option : No Option Orientation : Vertical

Correct Marks : 1 Wrong Marks : 0.25

175 अनाज के दानो के मानक वजन के साथ, चांदी टांका और तांबे की जीतल- सल्तनत काल के दो मूल सिक्को को किसने पेश किया था?

Options :

- ✔ इल्तुतमिश
- ✘ बाबर
- ✘ हुमायूँ
- ✘ जहाँगीर

Question Number : 66 Question Id : 99836718370 Question Type : MCQ Option Shuffling : Yes Display Question Number : Yes
Single Line Question Option : No Option Orientation : Vertical

Correct Marks : 1 Wrong Marks : 0.25

Babur defeated _____ in the Battle of Chanderi.

Options :

- ✘ Rana Sanga
- ✘ Ibrahim Lodi
- ✔ Medini Rai
- ✘ Iltutmish

Question Number : 66 Question Id : 99836718370 Question Type : MCQ Option Shuffling : Yes Display Question Number : Yes
Single Line Question Option : No Option Orientation : Vertical

Correct Marks : 1 Wrong Marks : 0.25

चंदेरी के युद्ध में बाबर ने _____ को हराया।

Options :

1. ✘ राणा सांगा
2. ✘ इब्राहिम लोदी
3. ✔ मेदिनी राय
4. ✘ इल्तुतमिश

Question Number : 67 Question Id : 99836718371 Question Type : MCQ Option Shuffling : Yes Display Question Number : Yes
Single Line Question Option : No Option Orientation : Vertical

Correct Marks : 1 Wrong Marks : 0.25

Who was the first Mughal ruler to become East India Company Pensioner?

Options :

1. ✘ Shah Alam I
2. ✔ Shah Alam II
3. ✘ Akbar II
4. ✘ Alamgir

Question Number : 67 Question Id : 99836718371 Question Type : MCQ Option Shuffling : Yes Display Question Number : Yes
Single Line Question Option : No Option Orientation : Vertical

Correct Marks : 1 Wrong Marks : 0.25

ईस्ट इंडिया कंपनी पेंशनभोगी बनने वाला पहला मुगल शासक कौन था?

Options :

1. ✘ शाह आलम I
2. ✔ शाह आलम II
3. ✘ अकबर II
4. ✘ आलमगीर

Question Number : 68 Question Id : 99836718372 Question Type : MCQ Option Shuffling : Yes Display Question Number : Yes
Single Line Question Option : No Option Orientation : Vertical

Correct Marks : 1 Wrong Marks : 0.25

The Village by the Sea' is written by _____.

Options :

1. ✘ Raja Rao
2. ✔ Anita Desai
3. ✘ R. K. Narayan
4. ✘ Salman Rushdie

Question Number : 68 Question Id : 99836718372 Question Type : MCQ Option Shuffling : Yes Display Question Number : Yes
Single Line Question Option : No Option Orientation : Vertical

Correct Marks : 1 Wrong Marks : 0.25

द विलेज बाय द सी' _____ द्वारा लिखी गई है।

Options :

1. ✘ राजा राव
2. ✔ अनीता देसाई
3. ✘ आर. के. नारायण

4. ✘ सलमान रुश्दी

Question Number : 69 Question Id : 99836718373 Question Type : MCQ Option Shuffling : Yes Display Question Number : Yes
Single Line Question Option : No Option Orientation : Vertical

Correct Marks : 1 Wrong Marks : 0.25

All Round View' is the autobiography of _____.

Options :

1. ✔ Imran Khan
2. ✘ Wasim Akram
3. ✘ Yuvraj Singh
4. ✘ Sunil Gavaskar

Question Number : 69 Question Id : 99836718373 Question Type : MCQ Option Shuffling : Yes Display Question Number : Yes
Single Line Question Option : No Option Orientation : Vertical

Correct Marks : 1 Wrong Marks : 0.25

ऑल राउंड व्यू ' _____ की आत्मकथा है।

Options :

1. ✔ इमरान खान
2. ✘ वसीम अकरम
3. ✘ युवराज सिंह
4. ✘ सुनील गावस्कर

Question Number : 70 Question Id : 99836718374 Question Type : MCQ Option Shuffling : Yes Display Question Number : Yes
Single Line Question Option : No Option Orientation : Vertical

Correct Marks : 1 Wrong Marks : 0.25

What is the real name of Swami Vivekananda?

Options :

1. ✘ Gadadhar Chattopadhyay
2. ✔ Narendra Nath Datta
3. ✘ Balaji Janardan Bhanu
4. ✘ Dhanpat Rai

Question Number : 70 Question Id : 99836718374 Question Type : MCQ Option Shuffling : Yes Display Question Number : Yes
Single Line Question Option : No Option Orientation : Vertical

Correct Marks : 1 Wrong Marks : 0.25

स्वामी विवेकानंद का वास्तविक नाम क्या है?

Options :

1. ✘ गदाधर चट्टोपाध्याय
2. ✔ नरेंद्र नाथ दत्त
3. ✘ बालाजी जनार्दन भानु
4. ✘ धनपत राय

Question Number : 71 Question Id : 99836718375 Question Type : MCQ Option Shuffling : Yes Display Question Number : Yes
Single Line Question Option : No Option Orientation : Vertical

Correct Marks : 1 Wrong Marks : 0.25

UNIDO stands for _____.

Options :

1. ✔ United Nations Industrial Development Organization
2. ✘ United National International District Organisation

3. ✖ United National Innovation Directory Organisation
4. ✖ United Nations Innovation Development Organization

Question Number : 71 Question Id : 99836718375 Question Type : MCQ Option Shuffling : Yes Display Question Number : Yes
Single Line Question Option : No Option Orientation : Vertical

Correct Marks : 1 Wrong Marks : 0.25

उनीदो (UNIDO) का संक्षितीकरण ----- है

Options :

1. ✔ यूनाइटेड नेशंस इंडस्ट्रियल डेवलपमेंट आर्गनाइजेशन
2. ✖ यूनाइटेड नेशनल इंटरनेशनल डिस्ट्रिक्ट आर्गनाइजेशन
3. ✖ यूनाइटेड नेशनल इनोवेशन डायरेक्टरी आर्गनाइजेशन
4. ✖ यूनाइटेड नेशंस इनोवेशन डेवलपमेंट आर्गनाइजेशन

Question Number : 72 Question Id : 99836718376 Question Type : MCQ Option Shuffling : Yes Display Question Number : Yes
Single Line Question Option : No Option Orientation : Vertical

Correct Marks : 1 Wrong Marks : 0.25

The first sounding rocket is launched from Thumba Equatorial Rocket Launching Station in -----.

Options :

1. ✖ Gujarat
2. ✖ Karnataka
3. ✔ Kerala
4. ✖ Tamil Nadu

Question Number : 72 Question Id : 99836718376 Question Type : MCQ Option Shuffling : Yes Display Question Number : Yes
Single Line Question Option : No Option Orientation : Vertical

Correct Marks : 1 Wrong Marks : 0.25

पहला साउंडिंग रॉकेट ----- में थुम्बा इक्वेटोरियल रॉकेट लॉन्चिंग स्टेशन से लॉन्च किया गया है।

Options :

1. ✖ गुजरात
2. ✖ कर्नाटक
3. ✔ केरल
4. ✖ तमिल नाडु

Question Number : 73 Question Id : 99836718377 Question Type : MCQ Option Shuffling : Yes Display Question Number : Yes
Single Line Question Option : No Option Orientation : Vertical

Correct Marks : 1 Wrong Marks : 0.25

Sunil Chhetri received ----- in 2019 for his contribution in the field of football.

Options :

1. ✖ Padma Vibhushan
2. ✖ Padma Bhushan
3. ✔ Padma Shree
4. ✖ Bharat Ratna

Question Number : 73 Question Id : 99836718377 Question Type : MCQ Option Shuffling : Yes Display Question Number : Yes
Single Line Question Option : No Option Orientation : Vertical

Correct Marks : 1 Wrong Marks : 0.25

सुनील छेत्री को फुटबॉल के क्षेत्र में उनके योगदान के लिए 2019 में ----- प्राप्त हुआ।

Options :

1. ✖ पद्म विभूषण

2. ✘ पद्म भूषण
3. ✔ पद्मश्री
4. ✘ भारत रत्न

Question Number : 74 Question Id : 99836718378 Question Type : MCQ Option Shuffling : Yes Display Question Number : Yes
Single Line Question Option : No Option Orientation : Vertical

Correct Marks : 1 Wrong Marks : 0.25

Part _____ of the Indian Constitution deals with the scheduled and tribal areas.

Options :

1. ✘ Part VIII
2. ✘ Part IX-B
3. ✔ Part X
4. ✘ Part VII

Question Number : 74 Question Id : 99836718378 Question Type : MCQ Option Shuffling : Yes Display Question Number : Yes
Single Line Question Option : No Option Orientation : Vertical

Correct Marks : 1 Wrong Marks : 0.25

भारतीय संविधान का _____ अनुसूचित और जनजातीय क्षेत्रों से संबंधित है।

Options :

1. ✘ भाग VIII
2. ✘ भाग IX-B
3. ✔ भाग X
4. ✘ भाग VII

Question Number : 75 Question Id : 99836718379 Question Type : MCQ Option Shuffling : Yes Display Question Number : Yes
Single Line Question Option : No Option Orientation : Vertical

Correct Marks : 1 Wrong Marks : 0.25

Which chapter of Part XII of Constitution of India deals with borrowing?

Options :

1. ✘ Chapter I
2. ✔ Chapter II
3. ✘ Chapter III
4. ✘ Chapter IV

Question Number : 75 Question Id : 99836718379 Question Type : MCQ Option Shuffling : Yes Display Question Number : Yes
Single Line Question Option : No Option Orientation : Vertical

Correct Marks : 1 Wrong Marks : 0.25

भारत के संविधान के भाग XII का कौन सा अध्याय उधार लेने से संबंधित है?

Options :

1. ✘ अध्याय I
2. ✔ अध्याय II
3. ✘ अध्याय III
4. ✘ अध्याय IV

Question Number : 76 Question Id : 99836718380 Question Type : MCQ Option Shuffling : Yes Display Question Number : Yes
Single Line Question Option : No Option Orientation : Vertical

Correct Marks : 1 Wrong Marks : 0.25

Part _____ of the Indian Constitution deals with the elections.

Options :

1. ✓ XV
2. ✗ XIII
3. ✗ XIV
4. ✗ XX

Question Number : 76 Question Id : 99836718380 Question Type : MCQ Option Shuffling : Yes Display Question Number : Yes
Single Line Question Option : No Option Orientation : Vertical

Correct Marks : 1 Wrong Marks : 0.25

भारतीय संविधान का भाग _____ चुनावों से संबंधित है।

Options :

1. ✓ XV
2. ✗ XIII
3. ✗ XIV
4. ✗ XX

Question Number : 77 Question Id : 99836718381 Question Type : MCQ Option Shuffling : Yes Display Question Number : Yes
Single Line Question Option : No Option Orientation : Vertical

Correct Marks : 1 Wrong Marks : 0.25

What is the minimum age to be elected as a member of Panchayat?

Options :

1. ✗ 25 years
2. ✓ 21 years
3. ✗ 26 years
4. ✗ 28 years

Question Number : 77 Question Id : 99836718381 Question Type : MCQ Option Shuffling : Yes Display Question Number : Yes
Single Line Question Option : No Option Orientation : Vertical

Correct Marks : 1 Wrong Marks : 0.25

पंचायत के सदस्य के रूप में चुने जाने के लिए न्यूनतम आयु क्या है?

Options :

1. ✗ 25 वर्ष
2. ✓ 21 वर्ष
3. ✗ 26 वर्ष
4. ✗ 28 वर्ष

Question Number : 78 Question Id : 99836718382 Question Type : MCQ Option Shuffling : Yes Display Question Number : Yes
Single Line Question Option : No Option Orientation : Vertical

Correct Marks : 1 Wrong Marks : 0.25

_____ was the only team in the whole tournament which could not win a single match in the World Cup 2019.

Options :

1. ✗ Bangladesh
2. ✓ Afghanistan
3. ✗ Pakistan
4. ✗ Australia

Question Number : 78 Question Id : 99836718382 Question Type : MCQ Option Shuffling : Yes Display Question Number : Yes
Single Line Question Option : No Option Orientation : Vertical

Correct Marks : 1 Wrong Marks : 0.25

----- पूरे टूर्नामेंट में एकमात्र टीम थी जो विश्व कप 2019 में एक भी मैच नहीं जीत सकी थी

Options :

1. ✘ बांग्लादेश
2. ✔ अफ़ग़ानिस्तान
3. ✘ पाकिस्तान
4. ✘ ऑस्ट्रेलिया

Question Number : 79 Question Id : 99836718383 Question Type : MCQ Option Shuffling : Yes Display Question Number : Yes
Single Line Question Option : No Option Orientation : Vertical

Correct Marks : 1 Wrong Marks : 0.25

India has hosted the Commonwealth Games first time in _____ in 2010.

Options :

1. ✔ Delhi
2. ✘ Mumbai
3. ✘ Kolkata
4. ✘ Bangalore

Question Number : 79 Question Id : 99836718383 Question Type : MCQ Option Shuffling : Yes Display Question Number : Yes
Single Line Question Option : No Option Orientation : Vertical

Correct Marks : 1 Wrong Marks : 0.25

भारत ने 2010 में _____ में पहली बार राष्ट्रमंडल खेलों की मेजबानी की थी

Options :

1. ✔ दिल्ली
2. ✘ मुंबई
3. ✘ कोलकाता
4. ✘ बंगलौर

Question Number : 80 Question Id : 99836718384 Question Type : MCQ Option Shuffling : Yes Display Question Number : Yes
Single Line Question Option : No Option Orientation : Vertical

Correct Marks : 1 Wrong Marks : 0.25

Which country won the maximum number of gold medals in the first Olympic?

Options :

1. ✘ England
2. ✘ Greece
3. ✘ France
4. ✔ United States of America

Question Number : 80 Question Id : 99836718384 Question Type : MCQ Option Shuffling : Yes Display Question Number : Yes
Single Line Question Option : No Option Orientation : Vertical

Correct Marks : 1 Wrong Marks : 0.25

प्रथम ओलंपिक में किस देश ने सर्वाधिक स्वर्ण पदक जीते?

Options :

1. ✘ इंग्लैंड
2. ✘ ग्रीस
3. ✘ फ्रांस
4. ✔ संयुक्त राज्य अमरीका

Arithmetic Ability 1

Group Number :	5
Group Id :	998367654
Group Maximum Duration :	0
Group Minimum Duration :	0
Revisit allowed for view? :	No
Revisit allowed for edit? :	No
Break time:	0
Group Marks:	20
Revisit allowed for group Instructions? :	Yes
Maximum Instruction Time:	0
Minimum Instruction Time:	0

Arithmetic Ability 1

Section Id :	998367775
Section Number :	1
Section type :	Online
Mandatory or Optional:	Mandatory
Number of Questions:	20
Number of Questions to be attempted:	20
Section Marks:	20
Display Number Panel:	Yes
Group All Questions:	No

Sub-Section Number:	1
Sub-Section Id:	998367987
Question Shuffling Allowed :	Yes

Question Number : 81 Question Id : 99836718385 Question Type : MCQ Option Shuffling : Yes Display Question Number : Yes
Single Line Question Option : No Option Orientation : Vertical

Correct Marks : 1 Wrong Marks : 0.25

A farmer raises chickens and horses on a farm. In total, he has 51 animals whereas the total number of legs are 156. Find the number of horses he has?

Options :

1. ✘ 21
2. ✘ 24
3. ✔ 27
4. ✘ 30

Question Number : 81 Question Id : 99836718385 Question Type : MCQ Option Shuffling : Yes Display Question Number : Yes
Single Line Question Option : No Option Orientation : Vertical

Correct Marks : 1 Wrong Marks : 0.25

एक किसान एक फार्म में मुर्गियों और घोड़ों को पालता है। कुल मिलाकर, उसके पास 51 जानवर हैं, जबकि पैरों की कुल संख्या 156 है। उसके पास कितने घोड़े हैं?

Options :

1. ✘ 21
2. ✘ 24
3. ✔ 27
4. ✘ 30

Question Number : 82 Question Id : 99836718386 Question Type : MCQ Option Shuffling : Yes Display Question Number : Yes
Single Line Question Option : No Option Orientation : Vertical

Correct Marks : 1 Wrong Marks : 0.25

What is the largest 4 digit number divisible by 4, 5, 6 and 12?

Options :

1. ✓ 9960
2. ✗ 9990
3. ✗ 9900
4. ✗ 9660

Question Number : 82 Question Id : 99836718386 Question Type : MCQ Option Shuffling : Yes Display Question Number : Yes
Single Line Question Option : No Option Orientation : Vertical

Correct Marks : 1 Wrong Marks : 0.25

4, 5, 6 और 12 द्वारा विभाज्य सबसे बड़ी 4 अंकों की संख्या क्या है?

Options :

1. ✓ 9960
2. ✗ 9990
3. ✗ 9900
4. ✗ 9660

Question Number : 83 Question Id : 99836718387 Question Type : MCQ Option Shuffling : Yes Display Question Number : Yes
Single Line Question Option : No Option Orientation : Vertical

Correct Marks : 1 Wrong Marks : 0.25

Find the value of:

$$(166 \times 4 + 21) \div 5 - 30 \times 2 + 4 = ?$$

Note: For this question, discrepancy is found in question/answer. So, this question is ignored for all candidates.

Options :

1. 20
2. 22
3. 18
4. 19

Question Number : 83 Question Id : 99836718387 Question Type : MCQ Option Shuffling : Yes Display Question Number : Yes
Single Line Question Option : No Option Orientation : Vertical

Correct Marks : 1 Wrong Marks : 0.25

मूल्य ज्ञात करें:

$$(166 \times 4 + 21) \div 5 - 30 \times 2 + 4 = ?$$

Note: For this question, discrepancy is found in question/answer. So, this question is ignored for all candidates.

Options :

1. 20
2. 22
3. 18
4. 19

Question Number : 84 Question Id : 99836718388 Question Type : MCQ Option Shuffling : Yes Display Question Number : Yes
Single Line Question Option : No Option Orientation : Vertical

Correct Marks : 1 Wrong Marks : 0.25

Find the value of x for which $|2x + 6|$ is minimum?

Options :

1. ✘ 2
2. ✘ -2
3. ✘ 3
4. ✔ -3

Question Number : 84 Question Id : 99836718388 Question Type : MCQ Option Shuffling : Yes Display Question Number : Yes
Single Line Question Option : No Option Orientation : Vertical

Correct Marks : 1 Wrong Marks : 0.25

x का मूल्य ज्ञात करें, जिसके लिए $|2x + 6|$ न्यूनतम है?

Options :

1. ✘ 2
2. ✘ -2
3. ✘ 3
4. ✔ -3

Question Number : 85 Question Id : 99836718389 Question Type : MCQ Option Shuffling : Yes Display Question Number : Yes
Single Line Question Option : No Option Orientation : Vertical

Correct Marks : 1 Wrong Marks : 0.25

Find the value of x.

$$(7 \times 9 \div 3) \times (8 + 8 \div 4) / (8 \times 6 \div x) = 105$$

Options :

1. ✘ 8
2. ✘ 16
3. ✔ 24
4. ✘ 20

Question Number : 85 Question Id : 99836718389 Question Type : MCQ Option Shuffling : Yes Display Question Number : Yes
Single Line Question Option : No Option Orientation : Vertical

Correct Marks : 1 Wrong Marks : 0.25

x का मूल्य ज्ञात करें.

$$(7 \times 9 \div 3) \times (8 + 8 \div 4) / (8 \times 6 \div x) = 105$$

Options :

1. ✘ 8
2. ✘ 16
3. ✔ 24
4. ✘ 20

Question Number : 86 Question Id : 99836718390 Question Type : MCQ Option Shuffling : Yes Display Question Number : Yes
Single Line Question Option : No Option Orientation : Vertical

Correct Marks : 1 Wrong Marks : 0.25

Simplify: $(21.6 \div 2.7) \times (72 \div 9) = ?$

Options :

1. ✔ 64

2. ✘ 49
3. ✘ 81
4. ✘ 100

Question Number : 86 Question Id : 99836718390 Question Type : MCQ Option Shuffling : Yes Display Question Number : Yes
Single Line Question Option : No Option Orientation : Vertical

Correct Marks : 1 Wrong Marks : 0.25

सरल करें:

$$(21.6 \div 2.7) \times (72 \div 9) = ?$$

Options :

1. ✔ 64
2. ✘ 49
3. ✘ 81
4. ✘ 100

Question Number : 87 Question Id : 99836718391 Question Type : MCQ Option Shuffling : Yes Display Question Number : Yes
Single Line Question Option : No Option Orientation : Vertical

Correct Marks : 1 Wrong Marks : 0.25

Find the total number of factors in 468?

Options :

1. ✘ 6
2. ✘ 24
3. ✘ 12
4. ✔ 18

Question Number : 87 Question Id : 99836718391 Question Type : MCQ Option Shuffling : Yes Display Question Number : Yes
Single Line Question Option : No Option Orientation : Vertical

Correct Marks : 1 Wrong Marks : 0.25

468 में कारकों की कुल संख्या ज्ञात करें?

Options :

1. ✘ 6
2. ✘ 24
3. ✘ 12
4. ✔ 18

Question Number : 88 Question Id : 99836718392 Question Type : MCQ Option Shuffling : Yes Display Question Number : Yes
Single Line Question Option : No Option Orientation : Vertical

Correct Marks : 1 Wrong Marks : 0.25

Which of the following numbers is divisible by 11?

Options :

1. ✔ 273560925
2. ✘ 8352849251
3. ✘ 3762874912
4. ✘ 7345271892

Question Number : 88 Question Id : 99836718392 Question Type : MCQ Option Shuffling : Yes Display Question Number : Yes
Single Line Question Option : No Option Orientation : Vertical

Correct Marks : 1 Wrong Marks : 0.25

निम्नलिखित में से कौन सी संख्या 11 से विभाज्य है?

Options :

1. ✓ 273560925
2. ✗ 8352849251
3. ✗ 3762874912
4. ✗ 7345271892

Question Number : 89 Question Id : 99836718393 Question Type : MCQ Option Shuffling : Yes Display Question Number : Yes
Single Line Question Option : No Option Orientation : Vertical

Correct Marks : 1 Wrong Marks : 0.25

If, $x + y = 8$, and x is greater than y by 2, then find xy ?

Options :

1. ✗ 25
2. ✓ 15
3. ✗ 30
4. ✗ 10

Question Number : 89 Question Id : 99836718393 Question Type : MCQ Option Shuffling : Yes Display Question Number : Yes
Single Line Question Option : No Option Orientation : Vertical

Correct Marks : 1 Wrong Marks : 0.25

यदि $x + y = 8$, और x , y से 2 बड़ा है तो xy का मूल्य ज्ञात करें

Options :

1. ✗ 25
2. ✓ 15
3. ✗ 30
4. ✗ 10

Question Number : 90 Question Id : 99836718394 Question Type : MCQ Option Shuffling : Yes Display Question Number : Yes
Single Line Question Option : No Option Orientation : Vertical

Correct Marks : 1 Wrong Marks : 0.25

Simplify:

$$[{\{(135 \text{ of } 2 + 5) \div 5\} + 5] \div 12 = ?$$

Options :

1. ✓ 5
2. ✗ 25
3. ✗ 15
4. ✗ 10

Question Number : 90 Question Id : 99836718394 Question Type : MCQ Option Shuffling : Yes Display Question Number : Yes
Single Line Question Option : No Option Orientation : Vertical

Correct Marks : 1 Wrong Marks : 0.25

सरल करें:

$$[{\{(2 + 5 \text{ का } 135) \div 5\} + 5] \div 12 = ?$$

Options :

1. ✓ 5
2. ✗ 25
3. ✗ 15

4. ✖ 10

Question Number : 91 Question Id : 99836718395 Question Type : MCQ Option Shuffling : Yes Display Question Number : Yes
Single Line Question Option : No Option Orientation : Vertical

Correct Marks : 1 Wrong Marks : 0.25

A watch is sold for Rs. 560 at a profit of 40 percent. If it was sold at 30 percent discount on the selling price, what would have been the profit/loss?

Options :

1. ✔ Rs. 8 loss
2. ✖ Rs. 520 profit
3. ✖ Rs. 8 profit
4. ✖ Rs. 520 loss

Question Number : 91 Question Id : 99836718395 Question Type : MCQ Option Shuffling : Yes Display Question Number : Yes
Single Line Question Option : No Option Orientation : Vertical

Correct Marks : 1 Wrong Marks : 0.25

एक घड़ी 40 प्रतिशत के लाभ पर 560 रुपए में बेची जाती है। यदि इसे विक्रय मूल्य पर 30 प्रतिशत की छूट पर बेचा जाता है, तो लाभ/हानि क्या होगी?

Options :

1. ✔ 8 रुपए हानि
2. ✖ 520 रुपए लाभ
3. ✖ 8 रुपए लाभ
4. ✖ 520 रुपए हानि

Question Number : 92 Question Id : 99836718396 Question Type : MCQ Option Shuffling : Yes Display Question Number : Yes
Single Line Question Option : No Option Orientation : Vertical

Correct Marks : 1 Wrong Marks : 0.25

If a store sold 30 items of which half the items were sold for twice the selling price of the rest, then what was the average sale price if the selling price of the cheaper items was Rs. x per item?

Options :

1. ✖ Rs. $1.25x$
2. ✔ Rs. $1.5x$
3. ✖ Rs. $1.75x$
4. ✖ Rs. $2x$

Question Number : 92 Question Id : 99836718396 Question Type : MCQ Option Shuffling : Yes Display Question Number : Yes
Single Line Question Option : No Option Orientation : Vertical

Correct Marks : 1 Wrong Marks : 0.25

किसी स्टोर ने 30 वस्तुएं बेचीं, जिनमें से आधी वस्तुएं बाकी के विक्रय मूल्य से दोगुनी कीमत पर बेची गईं। यदि सस्ती वस्तुओं की बिक्री का मूल्य x रुपए प्रति वस्तु था, तो औसत बिक्री मूल्य क्या था?

Options :

1. ✖ $1.25x$ रुपए
2. ✔ $1.5x$ रुपए
3. ✖ $1.75x$ रुपए
4. ✖ $2x$ रुपए

Question Number : 93 Question Id : 99836718397 Question Type : MCQ Option Shuffling : Yes Display Question Number : Yes
Single Line Question Option : No Option Orientation : Vertical

Correct Marks : 1 Wrong Marks : 0.25

Jones retired by getting out after scoring 10 runs in his last match with a batting average of 99 after playing 40 matches. How much should he have scored in his last innings to achieve a batting average of 100?

Options :

- ✘ 311 runs
- ✘ 100 runs
- ✔ 50 runs
- ✘ 1 run

Question Number : 93 Question Id : 99836718397 Question Type : MCQ Option Shuffling : Yes Display Question Number : Yes Single Line Question Option : No Option Orientation : Vertical

Correct Marks : 1 Wrong Marks : 0.25

जोन्स ने अपने आखिरी मैच में 40 रन बनाने के बाद 99 के बल्लेबाजी औसत के साथ 10 रन बनाकर आउट हो गए। 100 की बल्लेबाजी औसत हासिल करने के लिए उन्हें अपनी अंतिम पारी में कितना रन बनाना चाहिए था?

Options :

- ✘ 311 रन
- ✘ 100 रन
- ✔ 50 रन
- ✘ 1 रन

Question Number : 94 Question Id : 99836718398 Question Type : MCQ Option Shuffling : Yes Display Question Number : Yes Single Line Question Option : No Option Orientation : Vertical

Correct Marks : 1 Wrong Marks : 0.25

A person won elections by receiving 70 percent of the total votes, his victory margin being 80 votes. Find the total number of votes casted?

Options :

- ✘ 50
- ✘ 100
- ✘ 150
- ✔ 200

Question Number : 94 Question Id : 99836718398 Question Type : MCQ Option Shuffling : Yes Display Question Number : Yes Single Line Question Option : No Option Orientation : Vertical

Correct Marks : 1 Wrong Marks : 0.25

एक व्यक्ति ने कुल वोटों का 70 प्रतिशत प्राप्त करके चुनाव जीता। उसकी जीत का अंतर 80 वोट था। वोटों की कुल संख्या ज्ञात करें?

Options :

- ✘ 50
- ✘ 100
- ✘ 150
- ✔ 200

Question Number : 95 Question Id : 99836718399 Question Type : MCQ Option Shuffling : Yes Display Question Number : Yes Single Line Question Option : No Option Orientation : Vertical

Correct Marks : 1 Wrong Marks : 0.25

A square of side 4 cm is cut into four equal triangles. What is the percentage of the area of each triangle compared to the area of the square?

Options :

- ✘ 12.5 percent
- ✔ 25 percent
- ✘ 37.5 percent
- ✘ 50 percent

Question Number : 95 Question Id : 99836718399 Question Type : MCQ Option Shuffling : Yes Display Question Number : Yes
Single Line Question Option : No Option Orientation : Vertical

Correct Marks : 1 Wrong Marks : 0.25

साइड 4 cm का एक वर्ग चार समान त्रिभुजों में बांटा जाता है। वर्ग के क्षेत्रफल की तुलना में प्रत्येक त्रिभुज का क्षेत्रफल कितना प्रतिशत है?

Options :

1. ✘ 12.5 प्रतिशत
2. ✔ 25 प्रतिशत
3. ✘ 37.5 प्रतिशत
4. ✘ 50 प्रतिशत

Question Number : 96 Question Id : 99836718400 Question Type : MCQ Option Shuffling : Yes Display Question Number : Yes
Single Line Question Option : No Option Orientation : Vertical

Correct Marks : 1 Wrong Marks : 0.25

The floor areas of the houses of A and B is in the ratio 2:1. A builds 50 percent extra floor area and B build 20 percent extra floor area. What is the new ratio of their floor areas?

Options :

1. ✘ 3:1.75
2. ✘ 2:1
3. ✘ 1.5:1
4. ✔ 2.5:1

Question Number : 96 Question Id : 99836718400 Question Type : MCQ Option Shuffling : Yes Display Question Number : Yes
Single Line Question Option : No Option Orientation : Vertical

Correct Marks : 1 Wrong Marks : 0.25

A और B के घरों का फर्श क्षेत्र 2:1 के अनुपात में है। A 50 प्रतिशत अतिरिक्त तल क्षेत्र बनाता है और B 20 प्रतिशत अतिरिक्त तल क्षेत्र का निर्माण करता है। उनके फर्श क्षेत्रों का नया अनुपात क्या है?

Options :

1. ✘ 3:1.75
2. ✘ 2:1
3. ✘ 1.5:1
4. ✔ 2.5:1

Question Number : 97 Question Id : 99836718401 Question Type : MCQ Option Shuffling : Yes Display Question Number : Yes
Single Line Question Option : No Option Orientation : Vertical

Correct Marks : 1 Wrong Marks : 0.25

A sells 1200 kgs rice at Rs. 12/kg. His purchase price is Rs. 8/kg. He spends Rs. 500 on transport and 2 percent of selling price on rent. What is his profit?

Options :

1. ✘ Rs. 2880
2. ✘ Rs. 3608
3. ✔ Rs. 4012
4. ✘ Rs. 4444

Question Number : 97 Question Id : 99836718401 Question Type : MCQ Option Shuffling : Yes Display Question Number : Yes
Single Line Question Option : No Option Orientation : Vertical

Correct Marks : 1 Wrong Marks : 0.25

A 1200 kg का 12 रुपए/kg चावल बेचता है। उसका खरीद मूल्य 8 रुपए/kg है। वह 500 रुपए परिवहन पर और बिक्री मूल्य का 2 प्रतिशत किराए पर खर्च करता है, उसका लाभ क्या है?

Options :

1. ✘ 2880 रुपए

2. ✘ 3608 रूपए
3. ✔ 4012 रूपए
4. ✘ 4444 रूपए

Question Number : 98 Question Id : 99836718402 Question Type : MCQ Option Shuffling : Yes Display Question Number : Yes
Single Line Question Option : No Option Orientation : Vertical

Correct Marks : 1 Wrong Marks : 0.25

A duty-free shop sells chocolate at Rs. 209 each for a profit of 10 percent. If the government regulates the profit to 7 percent, what will be the new selling price?

Options :

1. ✔ Rs. 203.30
2. ✘ Rs. 204.40
3. ✘ Rs. 202.20
4. ✘ Rs. 201.10

Question Number : 98 Question Id : 99836718402 Question Type : MCQ Option Shuffling : Yes Display Question Number : Yes
Single Line Question Option : No Option Orientation : Vertical

Correct Marks : 1 Wrong Marks : 0.25

एक ड्यूटी-फ्री दुकान 10 प्रतिशत के लाभ पर एक चॉकलेट 209 रूपए में बेचती है। यदि सरकार लाभ को 7 प्रतिशत तक नियंत्रित करती है, तो नया विक्रय मूल्य क्या होगा?

Options :

1. ✔ 203.30 रूपए
2. ✘ 204.40 रूपए
3. ✘ 202.20 रूपए
4. ✘ 201.10 रूपए

Question Number : 99 Question Id : 99836718403 Question Type : MCQ Option Shuffling : Yes Display Question Number : Yes
Single Line Question Option : No Option Orientation : Vertical

Correct Marks : 1 Wrong Marks : 0.25

What is the cost price of a cake sold at Rs. 308 at a loss of 12 percent?

Options :

1. ✘ Rs. 330
2. ✘ Rs. 340
3. ✔ Rs. 350
4. ✘ Rs. 360

Question Number : 99 Question Id : 99836718403 Question Type : MCQ Option Shuffling : Yes Display Question Number : Yes
Single Line Question Option : No Option Orientation : Vertical

Correct Marks : 1 Wrong Marks : 0.25

12 प्रतिशत की हानि पर 308 रूपए में बिकने वाले केक की कीमत क्या है?

Options :

1. ✘ 330 रूपए
2. ✘ 340 रूपए
3. ✔ 350 रूपए
4. ✘ 360 रूपए

Question Number : 100 Question Id : 99836718404 Question Type : MCQ Option Shuffling : Yes Display Question Number : Yes
Single Line Question Option : No Option Orientation : Vertical

Correct Marks : 1 Wrong Marks : 0.25

If $(x+5)/(x+1)$ is twice of 2:3, then find $(x+5)$.

Options :

1. ✘ 11
2. ✘ 4
3. ✘ 9
4. ✔ 16

Question Number : 100 Question Id : 99836718404 Question Type : MCQ Option Shuffling : Yes Display Question Number : Yes
Single Line Question Option : No Option Orientation : Vertical

Correct Marks : 1 Wrong Marks : 0.25

यदि $(x+5)/(x+1)$, 2:3 का दोगुना है तो $(x+5)$ ज्ञात करें

Options :

1. ✘ 11
2. ✘ 4
3. ✘ 9
4. ✔ 16

Arithmetic Ability2

Group Number :	6
Group Id :	998367655
Group Maximum Duration :	0
Group Minimum Duration :	0
Revisit allowed for view? :	No
Revisit allowed for edit? :	No
Break time:	0
Group Marks:	20
Revisit allowed for group Instructions? :	Yes
Maximum Instruction Time:	0
Minimum Instruction Time:	0

Arithmetic Ability2

Section Id :	998367776
Section Number :	1
Section type :	Online
Mandatory or Optional:	Mandatory
Number of Questions:	20
Number of Questions to be attempted:	20
Section Marks:	20
Display Number Panel:	Yes
Group All Questions:	No

Sub-Section Number:	1
Sub-Section Id:	998367988
Question Shuffling Allowed :	Yes

Question Number : 101 Question Id : 99836718405 Question Type : MCQ Option Shuffling : Yes Display Question Number : Yes
Single Line Question Option : No Option Orientation : Vertical

Correct Marks : 1 Wrong Marks : 0.25

Find the ratio of $(x-1) : (x+1)$ if $x = -2/3$.

Options :

1. ✓ -5
2. ✗ 5
3. ✗ $-1/5$
4. ✗ $1/5$

Question Number : 101 Question Id : 99836718405 Question Type : MCQ Option Shuffling : Yes Display Question Number : Yes
Single Line Question Option : No Option Orientation : Vertical

Correct Marks : 1 Wrong Marks : 0.25

$(X-1) : (x+1)$ का अनुपात ज्ञात करें यदि $x = -2/3$ है

Options :

1. ✓ -5
2. ✗ 5
3. ✗ $-1/5$
4. ✗ $1/5$

Question Number : 102 Question Id : 99836718406 Question Type : MCQ Option Shuffling : Yes Display Question Number : Yes
Single Line Question Option : No Option Orientation : Vertical

Correct Marks : 1 Wrong Marks : 0.25

A bag has Rs. 35 in it with 25 paise, 50 paise and Rs. 1 coins in ratio of 2:3:5. Find the total number of 50 paise coins?

Options :

1. ✗ 10
2. ✓ 15
3. ✗ 20
4. ✗ 25

Question Number : 102 Question Id : 99836718406 Question Type : MCQ Option Shuffling : Yes Display Question Number : Yes
Single Line Question Option : No Option Orientation : Vertical

Correct Marks : 1 Wrong Marks : 0.25

एक बैग में 35 रुपए 25 पैसे हैं और 1 रुपए के सिक्के का अनुपात 2:3:5 है तो 50 पैसे के सिक्कों की कुल संख्या ज्ञात करें?

Options :

1. ✗ 10
2. ✓ 15
3. ✗ 20
4. ✗ 25

Question Number : 103 Question Id : 99836718407 Question Type : MCQ Option Shuffling : Yes Display Question Number : Yes
Single Line Question Option : No Option Orientation : Vertical

Correct Marks : 1 Wrong Marks : 0.25

Find the amount if Rs. 1,50,000 is invested for 4 years at 10 percent simple interest per annum?

Options :

1. ✓ Rs. 210000
2. ✗ Rs. 190000
3. ✗ Rs. 185000
4. ✗ Rs. 170000

Question Number : 103 Question Id : 99836718407 Question Type : MCQ Option Shuffling : Yes Display Question Number : Yes
Single Line Question Option : No Option Orientation : Vertical

Correct Marks : 1 Wrong Marks : 0.25

यदि 1,50,000 रुपए की राशि प्रति वर्ष 10 प्रतिशत साधारण ब्याज पर 4 वर्ष के लिए निवेश की जाती है तो ब्याज के साथ मिलनेवाली राशि ज्ञात करें?

Options :

1. ✓ 210000 रुपए
2. ✗ 190000 रुपए
3. ✗ 185000 रुपए
4. ✗ 170000 रुपए

Question Number : 104 Question Id : 99836718408 Question Type : MCQ Option Shuffling : Yes Display Question Number : Yes
Single Line Question Option : No Option Orientation : Vertical

Correct Marks : 1 Wrong Marks : 0.25

Mahesh had a surplus of Rs. 100000 as on 03.05.2018 and he invested this amount up to 11.08.2018 and earned simple interest of Rs. 5000. What was the rate of simple interest applied?

Options :

1. ✗ 18.50 percent
2. ✗ 18 percent
3. ✓ 18.25 percent
4. ✗ 19 percent

Question Number : 104 Question Id : 99836718408 Question Type : MCQ Option Shuffling : Yes Display Question Number : Yes
Single Line Question Option : No Option Orientation : Vertical

Correct Marks : 1 Wrong Marks : 0.25

महेश के पास 03.05.2018 को 100000 रुपए उसकी जरूरत से अधिक था और उसने यह राशि 11.08.2018 तक निवेश की और 5000 रुपए का साधारण ब्याज कमाया। साधारण ब्याज की दर क्या लागू की गई थी?

Options :

1. ✗ 18.50 प्रतिशत
2. ✗ 18 प्रतिशत
3. ✓ 18.25 प्रतिशत
4. ✗ 19 प्रतिशत

Question Number : 105 Question Id : 99836718409 Question Type : MCQ Option Shuffling : Yes Display Question Number : Yes
Single Line Question Option : No Option Orientation : Vertical

Correct Marks : 1 Wrong Marks : 0.25

The price of a camera is Rs. 600. There is an option of easy payment where the down payment is Rs. 300 and Rs. 315 is payable after 6 months. What is the rate of simple interest applied in the easy payment option?

Options :

1. ✗ 12 percent
2. ✓ 10 percent
3. ✗ 8 percent
4. ✗ 9 percent

Question Number : 105 Question Id : 99836718409 Question Type : MCQ Option Shuffling : Yes Display Question Number : Yes
Single Line Question Option : No Option Orientation : Vertical

Correct Marks : 1 Wrong Marks : 0.25

एक कैमरे की कीमत 600 रुपए है। इसके आसान भुगतान का एक विकल्प है 300 रुपए की अग्रिम भुगतान तत्काल और 6 महीने के बाद 315 रुपए का भुगतान करना है। आसान भुगतान विकल्प में लागू साधारण ब्याज की दर क्या है?

Options :

1. ✖ 12 प्रतिशत
2. ✔ 10 प्रतिशत
3. ✖ 8 प्रतिशत
4. ✖ 9 प्रतिशत

Question Number : 106 Question Id : 99836718410 Question Type : MCQ Option Shuffling : Yes Display Question Number : Yes
Single Line Question Option : No Option Orientation : Vertical

Correct Marks : 1 Wrong Marks : 0.25

An ant climbs a pipe of length 9 m. It goes up 5 m in 1 minute and falls down 3 m the next minute. How much time will it require to reach the top?

Options :

1. ✖ 4 min
2. ✔ 5 min
3. ✖ 6 min
4. ✖ 8 min

Question Number : 106 Question Id : 99836718410 Question Type : MCQ Option Shuffling : Yes Display Question Number : Yes
Single Line Question Option : No Option Orientation : Vertical

Correct Marks : 1 Wrong Marks : 0.25

एक चींटी 9 m की लंबाई के पाइप पर चढ़ती है वह 1 मिनट में 5 m ऊपर जाती है और अगले मिनट 3 m नीचे गिर जाती है। उसे शीर्ष पर पहुंचने के लिए कितने समय की आवश्यकता होगी?

Options :

1. ✖ 4 मिनट
2. ✔ 5 मिनट
3. ✖ 6 मिनट
4. ✖ 8 मिनट

Question Number : 107 Question Id : 99836718411 Question Type : MCQ Option Shuffling : Yes Display Question Number : Yes
Single Line Question Option : No Option Orientation : Vertical

Correct Marks : 1 Wrong Marks : 0.25

बंटी और बबली को समान दूरी तय करने के लिए क्रमशः 4 और 5 मिनट लगते हैं। 2 km की दौड़ में, बंटी किस दूरी तक जाएगा?

Options :

1. ✖ 200 m
2. ✖ 300 m
3. ✔ 400 m
4. ✖ 500 m

Question Number : 107 Question Id : 99836718411 Question Type : MCQ Option Shuffling : Yes Display Question Number : Yes
Single Line Question Option : No Option Orientation : Vertical

Correct Marks : 1 Wrong Marks : 0.25

Bunty and Babli take 4 & 5 minutes respectively to cover the same distance. In a 2 km race, by what distance will Bunty?

Options :

1. ✖ 200 m
2. ✖ 300 m
3. ✔ 400 m
4. ✖ 500 m

Question Number : 108 Question Id : 99836718412 Question Type : MCQ Option Shuffling : Yes Display Question Number : Yes
Single Line Question Option : No Option Orientation : Vertical

Correct Marks : 1 Wrong Marks : 0.25

Peter completes a triathlon race by running 20 km at 20 km/h, then cycling 45 km at 30 km/h and finally swimming 5 km at 5 km/h. What is his average speed in this race?

Options :

1. ✘ 18 km/h
2. ✔ 20 km/h
3. ✘ 22 km/h
4. ✘ 24 km/h

Question Number : 108 Question Id : 99836718412 Question Type : MCQ Option Shuffling : Yes Display Question Number : Yes
Single Line Question Option : No Option Orientation : Vertical

Correct Marks : 1 Wrong Marks : 0.25

पीटर 20 km/h पर 20 km दौड़कर एक ट्रायथलॉन दौड़ पूरी करता है, फिर 30 km/h से 45 km साइकिल चलाता है और अंत में 5 km/h से 5 km तैराकी करता है। इस दौड़ में उसकी औसत गति क्या है?

Options :

1. ✘ 18 km/h
2. ✔ 20 km/h
3. ✘ 22 km/h
4. ✘ 24 km/h

Question Number : 109 Question Id : 99836718413 Question Type : MCQ Option Shuffling : Yes Display Question Number : Yes
Single Line Question Option : No Option Orientation : Vertical

Correct Marks : 1 Wrong Marks : 0.25

A work can be completed by A, B and C in 10, 15 and 20 days respectively. After working together for 4 days, A and C left. How much time will B take to complete work?

Options :

1. ✘ 4
2. ✘ 3
3. ✔ 2
4. ✘ 1

Question Number : 109 Question Id : 99836718413 Question Type : MCQ Option Shuffling : Yes Display Question Number : Yes
Single Line Question Option : No Option Orientation : Vertical

Correct Marks : 1 Wrong Marks : 0.25

A, B और C द्वारा क्रमशः 10, 15 और 20 दिनों में काम पूरा किया जा सकता है। 4 दिनों तक एक साथ काम करने के बाद, A और C ने काम छोड़ दिया। B को काम पूरा करने में कितना समय लगेगा?

Options :

1. ✘ 4
2. ✘ 3
3. ✔ 2
4. ✘ 1

Question Number : 110 Question Id : 99836718414 Question Type : MCQ Option Shuffling : Yes Display Question Number : Yes
Single Line Question Option : No Option Orientation : Vertical

Correct Marks : 1 Wrong Marks : 0.25

A and B started a work together which they could have individually completed in 14 and 10 days respectively. If A quits work after some days and B finishes the remaining work in 4 days, then for how many days did A work?

Options :

- ✘ 3 days
- ✔ 3.5 days
- ✘ 4 days
- ✘ 4.5 days

Question Number : 110 Question Id : 99836718414 Question Type : MCQ Option Shuffling : Yes Display Question Number : Yes
Single Line Question Option : No Option Orientation : Vertical

Correct Marks : 1 Wrong Marks : 0.25

A और B ने मिलकर एक काम शुरू किया, जिसे वे अकेले क्रमशः 14 और 10 दिनों में पूरा कर सकते थे। यदि A कुछ दिनों के बाद काम छोड़ देता है और B 4 दिनों में शेष कार्य पूरा करता है, तो A ने कितने दिनों के लिए काम किया?

Options :

- ✘ 3 दिन
- ✔ 3.5 दिन
- ✘ 4 दिन
- ✘ 4.5 दिन

Question Number : 111 Question Id : 99836718415 Question Type : MCQ Option Shuffling : Yes Display Question Number : Yes
Single Line Question Option : No Option Orientation : Vertical

Correct Marks : 1 Wrong Marks : 0.25

Priya works two times faster than Rekha and can complete her work in 15 days. If both work together then how much time will they take to complete the work?

Options :

- ✘ 25 days
- ✘ 20 days
- ✘ 15 days
- ✔ 10 days

Question Number : 111 Question Id : 99836718415 Question Type : MCQ Option Shuffling : Yes Display Question Number : Yes
Single Line Question Option : No Option Orientation : Vertical

Correct Marks : 1 Wrong Marks : 0.25

प्रिया, रेखा से दो गुना तेज काम करती है और 15 दिनों में अपना काम पूरा कर सकती है। यदि दोनों साथ काम करते हैं तो उन्हें काम पूरा करने में कितना समय लगेगा?

Options :

- ✘ 25 दिन
- ✘ 20 दिन
- ✘ 15 दिन
- ✔ 10 दिन

Question Number : 112 Question Id : 99836718416 Question Type : MCQ Option Shuffling : Yes Display Question Number : Yes
Single Line Question Option : No Option Orientation : Vertical

Correct Marks : 1 Wrong Marks : 0.25

The surface area of a cube is 1944 sq m. Find its volume.

Options :

- ✘ 648 cu m
- ✘ 10648 cu m
- ✔ 5832 cu m
- ✘ 972 cu m

Question Number : 112 Question Id : 99836718416 Question Type : MCQ Option Shuffling : Yes Display Question Number : Yes
Single Line Question Option : No Option Orientation : Vertical

Correct Marks : 1 Wrong Marks : 0.25

एक घन का सतही क्षेत्रफल 1944 sq m है इसकी आयतन ज्ञात करें

Options :

- ✘ 648 cu m
- ✘ 10648 cu m
- ✔ 5832 cu m
- ✘ 972 cu m

Question Number : 113 Question Id : 99836718417 Question Type : MCQ Option Shuffling : Yes Display Question Number : Yes
Single Line Question Option : No Option Orientation : Vertical

Correct Marks : 1 Wrong Marks : 0.25

Find the difference between the surface area of a sphere having 1 cm radius of a circle and the area of a circle having diameter 6 cm.

Options :

- ✔ 5π sq cm
- ✘ 4π sq cm
- ✘ 3π sq cm
- ✘ 2π sq cm

Question Number : 113 Question Id : 99836718417 Question Type : MCQ Option Shuffling : Yes Display Question Number : Yes
Single Line Question Option : No Option Orientation : Vertical

Correct Marks : 1 Wrong Marks : 0.25

एक 1 cm त्रिज्या वाले गोले के क्षेत्रफल और 6 cm व्यास वाले वृत्त के क्षेत्रफल का अंतर ज्ञात करें

Options :

- ✔ 5π sq cm
- ✘ 4π sq cm
- ✘ 3π sq cm
- ✘ 2π sq cm

Question Number : 114 Question Id : 99836718418 Question Type : MCQ Option Shuffling : Yes Display Question Number : Yes
Single Line Question Option : No Option Orientation : Vertical

Correct Marks : 1 Wrong Marks : 0.25

If the total surface area of a cone is 40π sq cm and radius is 4 cm, find the slant height of the cone.

Options :

- ✔ 6 cm
- ✘ 5 cm
- ✘ 4 cm
- ✘ 3 cm

Question Number : 114 Question Id : 99836718418 Question Type : MCQ Option Shuffling : Yes Display Question Number : Yes
Single Line Question Option : No Option Orientation : Vertical

Correct Marks : 1 Wrong Marks : 0.25

यदि एक शंकु की कुल सतह का क्षेत्रफल 40π sq cm और त्रिज्या 4 cm है, तो शंकु की तिरछी ऊंचाई ज्ञात करें

Options :

- ✔ 6 cm
- ✘ 5 cm
- ✘ 4 cm

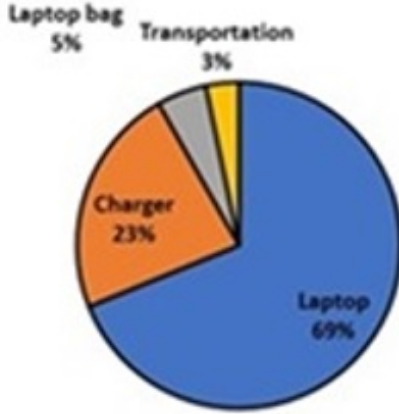
4. ✖ 3 cm

Question Number : 115 Question Id : 99836718419 Question Type : MCQ Option Shuffling : Yes Display Question Number : Yes Single Line Question Option : No Option Orientation : Vertical

Correct Marks : 1 Wrong Marks : 0.25

The pie chart shows the percentage of expenses incurred by a laptop seller in purchasing the laptops. He buys 5500 laptops a month and incurs a total expenditure of Rs. 99 lakhs on laptop bags only, at what price should he sell each laptop to earn a total profit of 20 percent?

Expenses incurred by a laptop seller



Options :

- ✓ Rs. 43,560
- ✖ Rs. 42,870
- ✖ Rs. 43,650
- ✖ Rs. 39,540

Question Number : 115 Question Id : 99836718419 Question Type : MCQ Option Shuffling : Yes Display Question Number : Yes Single Line Question Option : No Option Orientation : Vertical

Correct Marks : 1 Wrong Marks : 0.25

पाई चार्ट लैपटॉप खरीदने में लैपटॉप विक्रेता द्वारा किए गए खर्चों का प्रतिशत दर्शाता है। वह महीने में 5500 लैपटॉप खरीदता है और केवल लैपटॉप बैग पर कुल 99 लाख रुपये खर्च करता है, 20 प्रतिशत लाभ अर्जित करने के लिए प्रत्येक लैपटॉप को किस कीमत पर बेचना चाहिए?

लैपटॉप विक्रेता द्वारा किए गए व्यय



Options :

- ✓ 43,560 रुपए
- ✖ 42,870 रुपए
- ✖ 43,650 रुपए

4. ✖ 39,540 रुपए

Question Number : 116 Question Id : 99836718420 Question Type : MCQ Option Shuffling : Yes Display Question Number : Yes Single Line Question Option : No Option Orientation : Vertical

Correct Marks : 1 Wrong Marks : 0.25

The table shows the amount of electricity consumption (in MW) for 6 months from January 2018 to June 2018 in 4 different countries. What is the ratio of electricity consumed by Country B that by Country C in these 6 months?

Months	Country A	Country B	Country C	Country D
Jan, 2018	175	175	125	250
Feb, 2018	175	200	275	275
Mar, 2018	275	225	200	300
Apr, 2018	300	300	175	250
May, 2018	125	150	125	400
Jun, 2018	125	350	200	300

Options :

1. ✖ 10 : 7

2. ✖ 9 : 7

3. ✔ 14 : 11

4. ✖ 15 : 11

Question Number : 116 Question Id : 99836718420 Question Type : MCQ Option Shuffling : Yes Display Question Number : Yes Single Line Question Option : No Option Orientation : Vertical

Correct Marks : 1 Wrong Marks : 0.25

तालिका 4 अलग-अलग देशों में जनवरी 2018 से जून 2018 तक 6 महीने के लिए (MW में) बिजली की खपत को दर्शाता है। इन 6 महीनों में देश B से देश C के लिए खपत बिजली का अनुपात क्या है?

महीने	देश A	देश B	देश C	देश D
जनवरी, 2018	175	175	125	250
फरवरी, 2018	175	200	275	275
मार्च, 2018	275	225	200	300
अप्रैल 2018	300	300	175	250
मई, 2018	125	150	125	400
जून, 2018	125	350	200	300

Options :

1. ✖ 10 : 7

2. ✖ 9 : 7

3. ✔ 14 : 11

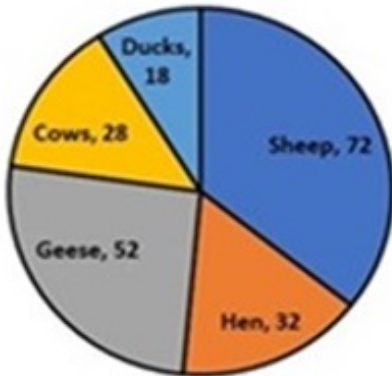
4. ✖ 15 : 11

Question Number : 117 Question Id : 99836718421 Question Type : MCQ Option Shuffling : Yes Display Question Number : Yes
Single Line Question Option : No Option Orientation : Vertical

Correct Marks : 1 Wrong Marks : 0.25

A farmer has poultry farm. The number of animals in the poultry farm is shown in the pie chart below. What fraction of the sheep are the cows?

Number of animals in poultry farm



Options :

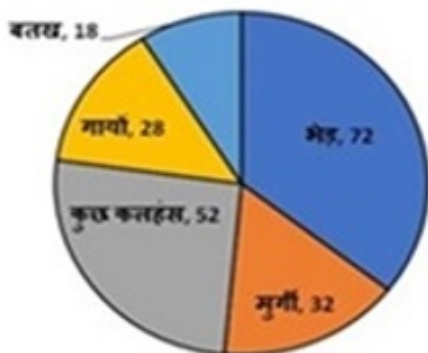
- ✓ $7/18$
- ✗ $18/7$
- ✗ $7/12$
- ✗ $12/7$

Question Number : 117 Question Id : 99836718421 Question Type : MCQ Option Shuffling : Yes Display Question Number : Yes
Single Line Question Option : No Option Orientation : Vertical

Correct Marks : 1 Wrong Marks : 0.25

एक किसान के पास पोल्ट्री फार्म है। पोल्ट्री फार्म में जानवरों की संख्या को नीचे दिए गए पाई चार्ट में दर्शाया गया है। भेड़ के किस अंश में गाय हैं?

पोल्ट्री फार्म में जानवरों की संख्या



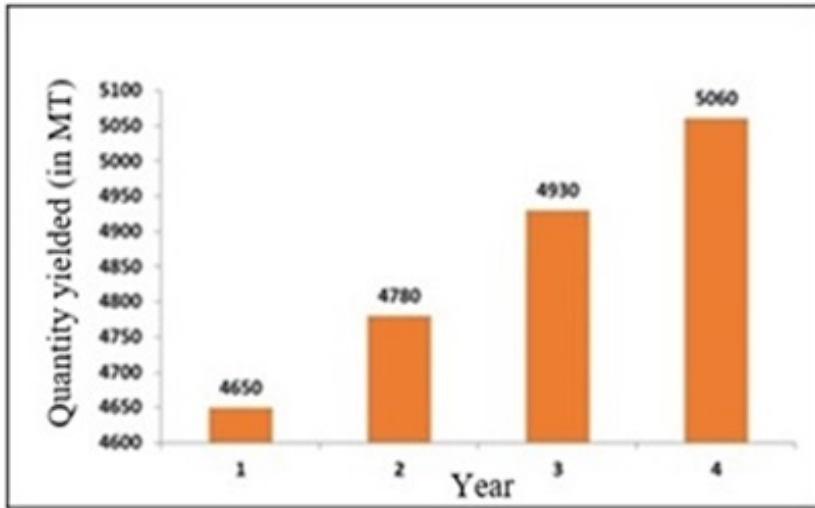
Options :

- ✓ $7/18$
- ✗ $18/7$
- ✗ $7/12$
- ✗ $12/7$

Question Number : 118 Question Id : 99836718422 Question Type : MCQ Option Shuffling : Yes Display Question Number : Yes
Single Line Question Option : No Option Orientation : Vertical

Correct Marks : 1 Wrong Marks : 0.25

The quantity of rice yielded (in MT) in 4 years is shown in the graph. What is the percentage growth from the 1st year to the 4th year?



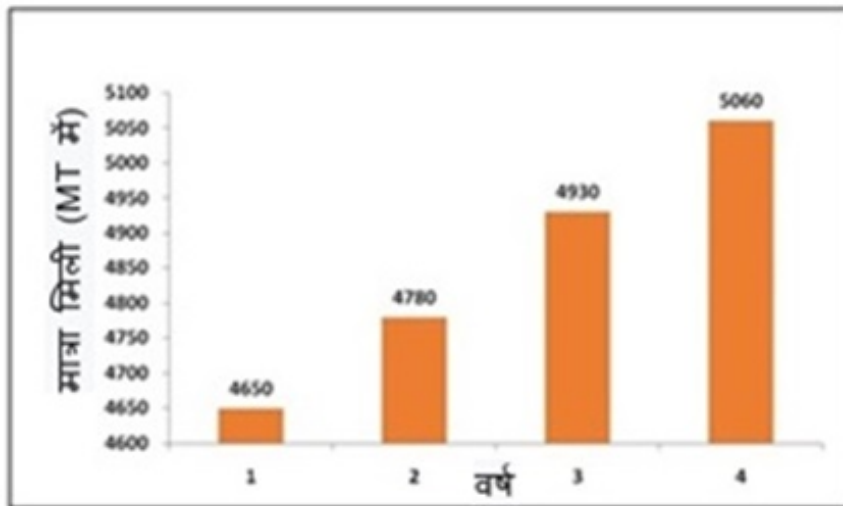
Options :

- ✘ 7.92 percent
- ✔ 8.81 percent
- ✘ 8.98 percent
- ✘ 7.89 percent

Question Number : 118 Question Id : 99836718422 Question Type : MCQ Option Shuffling : Yes Display Question Number : Yes Single Line Question Option : No Option Orientation : Vertical

Correct Marks : 1 Wrong Marks : 0.25

4 वर्षों में प्राप्त चावल (MT में) की मात्रा ग्राफ में दर्शाई गई है। 1 वर्ष से 4 वर्ष तक प्रतिशत वृद्धि क्या है?



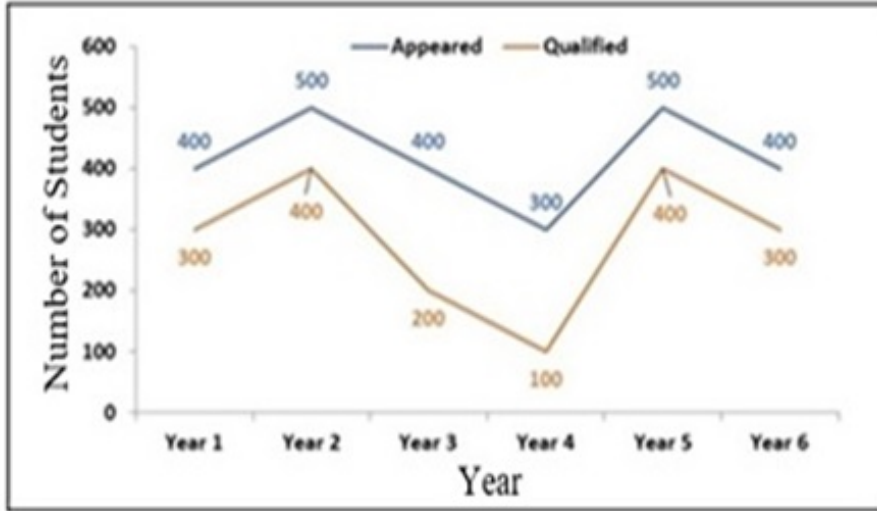
Options :

- ✘ 7.92 प्रतिशत
- ✔ 8.81 प्रतिशत
- ✘ 8.98 प्रतिशत
- ✘ 7.89 प्रतिशत

Question Number : 119 Question Id : 99836718423 Question Type : MCQ Option Shuffling : Yes Display Question Number : Yes Single Line Question Option : No Option Orientation : Vertical

Correct Marks : 1 Wrong Marks : 0.25

The frequency polygon shows the number of students who appeared for and qualified for the CAT exam in 6 consecutive years. What is the percentage of the total number of qualified students out of the total number of students appeared for exams in all 6 years together?



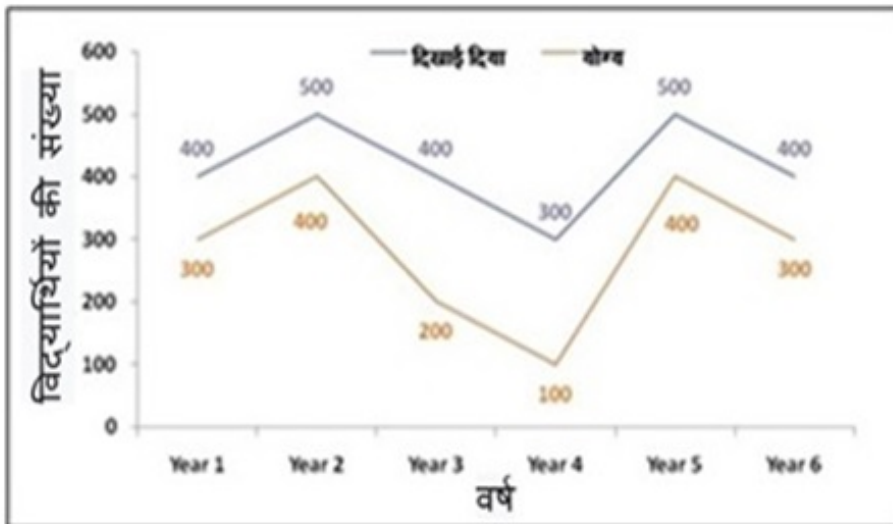
Options :

1. ✘ 72 percent
2. ✘ 65 percent
3. ✘ 75 percent
4. ✔ 68 percent

Question Number : 119 Question Id : 99836718423 Question Type : MCQ Option Shuffling : Yes Display Question Number : Yes Single Line Question Option : No Option Orientation : Vertical

Correct Marks : 1 Wrong Marks : 0.25

आवृत्ति बहुभुज उन छात्रों की संख्या को दर्शाता है, जो लगातार 6 वर्षों में CAT परीक्षा में शामिल हुए और योग्य हुए इन 6 वर्षों में योग्य हुए छात्रों की परीक्षा में शामिल होने वाले कुल छात्रों का प्रतिशत कितना है?



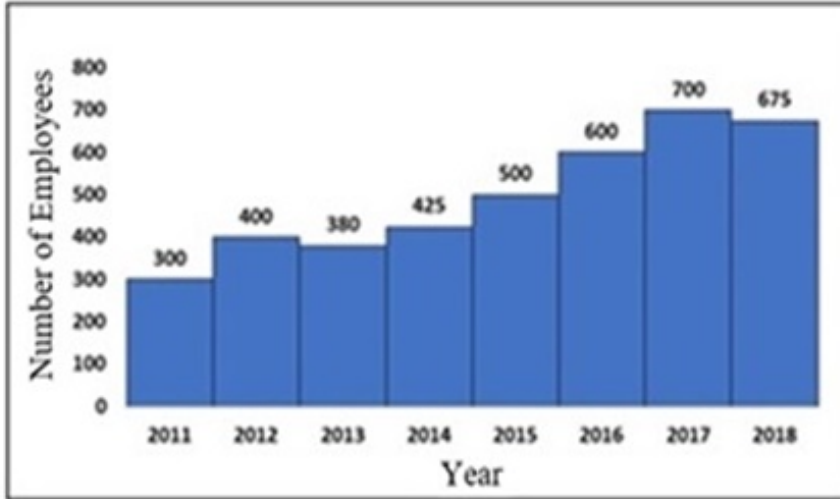
Options :

1. ✘ 72 प्रतिशत
2. ✘ 65 प्रतिशत
3. ✘ 75 प्रतिशत
4. ✔ 68 प्रतिशत

Question Number : 120 Question Id : 99836718424 Question Type : MCQ Option Shuffling : Yes Display Question Number : Yes Single Line Question Option : No Option Orientation : Vertical

Correct Marks : 1 Wrong Marks : 0.25

The histogram chart shows the number of employees of a firm for different years. In which year, was the increase in the number of employees the highest?



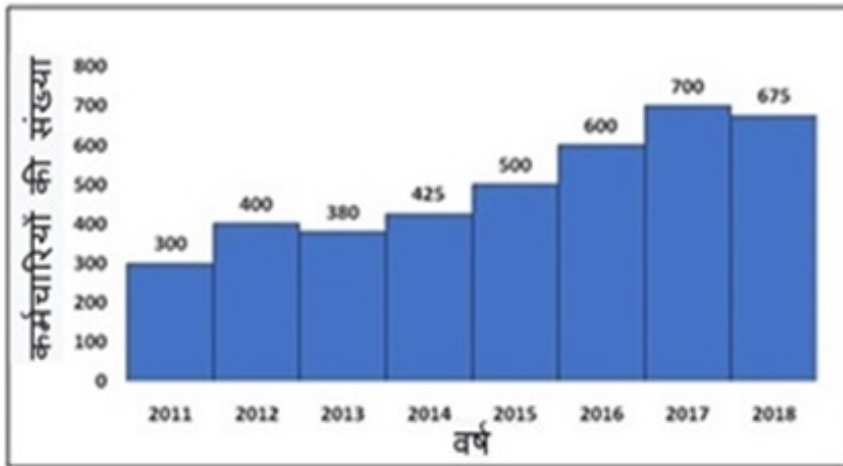
Options :

1. ✓ 2012
2. ✗ 2014
3. ✗ 2015
4. ✗ 2016

Question Number : 120 Question Id : 99836718424 Question Type : MCQ Option Shuffling : Yes Display Question Number : Yes Single Line Question Option : No Option Orientation : Vertical

Correct Marks : 1 Wrong Marks : 0.25

आयतचित्र चार्ट विभिन्न वर्षों में एक फर्म के कर्मचारियों की संख्या दर्शाता है। किस वर्ष में, कर्मचारियों की संख्या में वृद्धि सबसे अधिक हुई थी?



Options :

1. ✓ 2012
2. ✗ 2014
3. ✗ 2015
4. ✗ 2016

Group Id :	998367656
Group Maximum Duration :	0
Group Minimum Duration :	0
Revisit allowed for view? :	No
Revisit allowed for edit? :	No
Break time:	0
Group Marks:	20
Revisit allowed for group Instructions? :	Yes
Maximum Instruction Time:	0
Minimum Instruction Time:	0

General English 1

Section Id :	998367777
Section Number :	1
Section type :	Online
Mandatory or Optional:	Mandatory
Number of Questions:	20
Number of Questions to be attempted:	20
Section Marks:	20
Display Number Panel:	Yes
Group All Questions:	No

Sub-Section Number:	1
Sub-Section Id:	998367989
Question Shuffling Allowed :	Yes

Question Number : 121 Question Id : 99836718425 Question Type : MCQ Option Shuffling : Yes Display Question Number : Yes Single Line Question Option : No Option Orientation : Vertical

Correct Marks : 1 Wrong Marks : 0.25

The sentence below has been divided into three parts. Select the part of the sentence that has an error. If the sentence has no error, select the option 'No Error'.

Mahavir selected / the best clothes / to his upcoming wedding.

Options :

- ✘ Mahavir selected
- ✘ the best clothes
- ✔ to his upcoming wedding.
- ✘ No Error

Question Number : 121 Question Id : 99836718425 Question Type : MCQ Option Shuffling : Yes Display Question Number : Yes Single Line Question Option : No Option Orientation : Vertical

Correct Marks : 1 Wrong Marks : 0.25

The sentence below has been divided into three parts. Select the part of the sentence that has an error. If the sentence has no error, select the option 'No Error'.

Mahavir selected / the best clothes / to his upcoming wedding.

Options :

- ✘ Mahavir selected
- ✘ the best clothes
- ✔ to his upcoming wedding.

4. ✘ No Error

Question Number : 122 Question Id : 99836718426 Question Type : MCQ Option Shuffling : Yes Display Question Number : Yes
Single Line Question Option : No Option Orientation : Vertical

Correct Marks : 1 Wrong Marks : 0.25

The sentence below has been divided into three parts. Select the part of the sentence that has an error. If the sentence has no error, select the option 'No Error'.

Ramya buyed bangles / for all her friends / from the village fair.

Options :

1. ✔ Ramya buyed bangles
2. ✘ for all her friends
3. ✘ from the village fair.
4. ✘ No Error

Question Number : 122 Question Id : 99836718426 Question Type : MCQ Option Shuffling : Yes Display Question Number : Yes
Single Line Question Option : No Option Orientation : Vertical

Correct Marks : 1 Wrong Marks : 0.25

The sentence below has been divided into three parts. Select the part of the sentence that has an error. If the sentence has no error, select the option 'No Error'.

Ramya buyed bangles / for all her friends / from the village fair.

Options :

1. ✔ Ramya buyed bangles
2. ✘ for all her friends
3. ✘ from the village fair.
4. ✘ No Error

Question Number : 123 Question Id : 99836718427 Question Type : MCQ Option Shuffling : Yes Display Question Number : Yes
Single Line Question Option : No Option Orientation : Vertical

Correct Marks : 1 Wrong Marks : 0.25

The sentence below has been divided into three parts. Select the part of the sentence that has an error. If the sentence has no error, select the option 'No Error'.

Where will you stay / if you don't get / accommodation in any of the hotels?

Options :

1. ✘ Where will you stay
2. ✘ if you don't get
3. ✘ accommodation in any of the hotels?
4. ✔ No Error

Question Number : 123 Question Id : 99836718427 Question Type : MCQ Option Shuffling : Yes Display Question Number : Yes
Single Line Question Option : No Option Orientation : Vertical

Correct Marks : 1 Wrong Marks : 0.25

The sentence below has been divided into three parts. Select the part of the sentence that has an error. If the sentence has no error, select the option 'No Error'.

Where will you stay / if you don't get / accommodation in any of the hotels?

Options :

1. ✘ Where will you stay
2. ✘ if you don't get

3. ✘ accommodation in any of the hotels?

4. ✔ No Error

Question Number : 124 Question Id : 99836718428 Question Type : MCQ Option Shuffling : Yes Display Question Number : Yes
Single Line Question Option : No Option Orientation : Vertical

Correct Marks : 1 Wrong Marks : 0.25

The sentence below has been divided into three parts. Select the part of the sentence that has an error. If the sentence has no error, select the option 'No Error'.

Prabhakar told the teacher that / he could not found / his holiday homework.

Options :

1. ✘ Prabhakar told the teacher that

2. ✔ he could not found

3. ✘ his holiday homework.

4. ✘ No Error

Question Number : 124 Question Id : 99836718428 Question Type : MCQ Option Shuffling : Yes Display Question Number : Yes
Single Line Question Option : No Option Orientation : Vertical

Correct Marks : 1 Wrong Marks : 0.25

The sentence below has been divided into three parts. Select the part of the sentence that has an error. If the sentence has no error, select the option 'No Error'.

Prabhakar told the teacher that / he could not found / his holiday homework.

Options :

1. ✘ Prabhakar told the teacher that

2. ✔ he could not found

3. ✘ his holiday homework.

4. ✘ No Error

Question Number : 125 Question Id : 99836718429 Question Type : MCQ Option Shuffling : Yes Display Question Number : Yes
Single Line Question Option : No Option Orientation : Vertical

Correct Marks : 1 Wrong Marks : 0.25

The sentence below has been divided into three parts. Select the part of the sentence that has an error. If the sentence has no error, select the option 'No Error'.

Barkha shouted at / hers maid / for breaking the glass.

Options :

1. ✘ Barkha shouted at

2. ✔ hers maid

3. ✘ for breaking the glass.

4. ✘ No Error

Question Number : 125 Question Id : 99836718429 Question Type : MCQ Option Shuffling : Yes Display Question Number : Yes
Single Line Question Option : No Option Orientation : Vertical

Correct Marks : 1 Wrong Marks : 0.25

The sentence below has been divided into three parts. Select the part of the sentence that has an error. If the sentence has no error, select the option 'No Error'.

Barkha shouted at / hers maid / for breaking the glass.

Options :

1. ✘ Barkha shouted at

2. ✓ hers maid
3. ✗ for breaking the glass.
4. ✗ No Error

Question Number : 126 Question Id : 99836718430 Question Type : MCQ Option Shuffling : Yes Display Question Number : Yes
Single Line Question Option : No Option Orientation : Vertical

Correct Marks : 1 Wrong Marks : 0.25

Select the word segment that substitutes (replaces) the braketed word segment correctly and completes the sentence meaningfully. Select the option 'no correction required' if the sentence is correct as given.

I wrote a poem describing (the beauty of the mountains).

Options :

1. ✗ the beautiful of the mountains
2. ✗ the beauty off from the mountains
3. ✗ the beauty under the mountains
4. ✓ No correction required

Question Number : 126 Question Id : 99836718430 Question Type : MCQ Option Shuffling : Yes Display Question Number : Yes
Single Line Question Option : No Option Orientation : Vertical

Correct Marks : 1 Wrong Marks : 0.25

Select the word segment that substitutes (replaces) the braketed word segment correctly and completes the sentence meaningfully. Select the option 'no correction required' if the sentence is correct as given.

I wrote a poem describing (the beauty of the mountains).

Options :

1. ✗ the beautiful of the mountains
2. ✗ the beauty off from the mountains
3. ✗ the beauty under the mountains
4. ✓ No correction required

Question Number : 127 Question Id : 99836718431 Question Type : MCQ Option Shuffling : Yes Display Question Number : Yes
Single Line Question Option : No Option Orientation : Vertical

Correct Marks : 1 Wrong Marks : 0.25

Select the word segment that substitutes (replaces) the braketed word segment correctly and completes the sentence meaningfully. Select the option 'no correction required' if the sentence is correct as given.

The river is overflowing (but the authorities haven't did a thing).

Options :

1. ✓ but the authorities haven't done a thing
2. ✗ but the authorities hasn't did a thing
3. ✗ but the authorities hasn't done a thing
4. ✗ No correction required

Question Number : 127 Question Id : 99836718431 Question Type : MCQ Option Shuffling : Yes Display Question Number : Yes
Single Line Question Option : No Option Orientation : Vertical

Correct Marks : 1 Wrong Marks : 0.25

Select the word segment that substitutes (replaces) the braketed word segment correctly and completes the sentence meaningfully. Select the option 'no correction required' if the sentence is correct as given.

The river is overflowing (but the authorities haven't did a thing).

Options :

1. ✓ but the authorities haven't done a thing
2. ✗ but the authorities hasn't did a thing
3. ✗ but the authorities hasn't done a thing
4. ✗ No correction required

Question Number : 128 Question Id : 99836718432 Question Type : MCQ Option Shuffling : Yes Display Question Number : Yes
Single Line Question Option : No Option Orientation : Vertical

Correct Marks : 1 Wrong Marks : 0.25

Select the word segment that substitutes (replaces) the braketed word segment correctly and completes the sentence meaningfully. Select the option 'no correction required' if the sentence is correct as given.

Biju was elated (as he did topped the list of successful candidates).

Options :

1. ✗ as he tops the list of successful candidates
2. ✓ as he topped the list of successful candidates
3. ✗ as he done top the list of successful candidates
4. ✗ No correction required

Question Number : 128 Question Id : 99836718432 Question Type : MCQ Option Shuffling : Yes Display Question Number : Yes
Single Line Question Option : No Option Orientation : Vertical

Correct Marks : 1 Wrong Marks : 0.25

Select the word segment that substitutes (replaces) the braketed word segment correctly and completes the sentence meaningfully. Select the option 'no correction required' if the sentence is correct as given.

Biju was elated (as he did topped the list of successful candidates).

Options :

1. ✗ as he tops the list of successful candidates
2. ✓ as he topped the list of successful candidates
3. ✗ as he done top the list of successful candidates
4. ✗ No correction required

Question Number : 129 Question Id : 99836718433 Question Type : MCQ Option Shuffling : Yes Display Question Number : Yes
Single Line Question Option : No Option Orientation : Vertical

Correct Marks : 1 Wrong Marks : 0.25

Select the word segment that substitutes (replaces) the braketed word segment correctly and completes the sentence meaningfully. Select the option 'no correction required' if the sentence is correct as given.

Until 1998, (I hadn't never seen a real escalator).

Options :

1. ✓ I had not seen a real escalator
2. ✗ I had ever seen a real escalator
3. ✗ I didn't never seen a real escalator
4. ✗ No correction required

Question Number : 129 Question Id : 99836718433 Question Type : MCQ Option Shuffling : Yes Display Question Number : Yes
Single Line Question Option : No Option Orientation : Vertical

Correct Marks : 1 Wrong Marks : 0.25

Select the word segment that substitutes (replaces) the braketed word segment correctly and completes the sentence meaningfully. Select the option 'no correction required' if the sentence is correct as given.

Until 1998, (I hadn't never seen a real escalator).

Options :

1. ✓ I had not seen a real escalator
2. ✗ I had ever seen a real escalator
3. ✗ I didn't never seen a real escalator
4. ✗ No correction required

Question Number : 130 Question Id : 99836718434 Question Type : MCQ Option Shuffling : Yes Display Question Number : Yes
Single Line Question Option : No Option Orientation : Vertical

Correct Marks : 1 Wrong Marks : 0.25

Select the word segment that substitutes (replaces) the braketed word segment correctly and completes the sentence meaningfully. Select the option 'no correction required' if the sentence is correct as given.

(The teacher gave me not only good marks) but also praised me for having done so well.

Options :

1. ✗ The teacher gave not only me good marks
2. ✗ The teacher did not only gave me good marks
3. ✓ The teacher not only gave me good marks
4. ✗ No correction required

Question Number : 130 Question Id : 99836718434 Question Type : MCQ Option Shuffling : Yes Display Question Number : Yes
Single Line Question Option : No Option Orientation : Vertical

Correct Marks : 1 Wrong Marks : 0.25

Select the word segment that substitutes (replaces) the braketed word segment correctly and completes the sentence meaningfully. Select the option 'no correction required' if the sentence is correct as given.

(The teacher gave me not only good marks) but also praised me for having done so well.

Options :

1. ✗ The teacher gave not only me good marks
2. ✗ The teacher did not only gave me good marks
3. ✓ The teacher not only gave me good marks
4. ✗ No correction required

Question Number : 131 Question Id : 99836718435 Question Type : MCQ Option Shuffling : Yes Display Question Number : Yes
Single Line Question Option : No Option Orientation : Vertical

Correct Marks : 1 Wrong Marks : 0.25

Select the most appropriate word that fills in the blank correctly and completes the sentence meaningfully.

Lata's singing _____ the entire country.

Options :

1. ✓ enthralled
2. ✗ ruptured
3. ✗ frustrated
4. ✗ mingled

Question Number : 131 Question Id : 99836718435 Question Type : MCQ Option Shuffling : Yes Display Question Number : Yes
Single Line Question Option : No Option Orientation : Vertical

Correct Marks : 1 Wrong Marks : 0.25

Select the most appropriate word that fills in the blank correctly and completes the sentence meaningfully.

Lata's singing _____ the entire country.

Options :

1. ✓ enthralled
2. ✗ ruptured
3. ✗ frustrated
4. ✗ mingled

Question Number : 132 Question Id : 99836718436 Question Type : MCQ Option Shuffling : Yes Display Question Number : Yes
Single Line Question Option : No Option Orientation : Vertical

Correct Marks : 1 Wrong Marks : 0.25

Select the most appropriate word that fills in the blank correctly and completes the sentence meaningfully.

My boss was almost _____ by his presence all over the office.

Options :

1. ✗ ultimate
2. ✓ ubiquitous
3. ✗ pernicious
4. ✗ permissible

Question Number : 132 Question Id : 99836718436 Question Type : MCQ Option Shuffling : Yes Display Question Number : Yes
Single Line Question Option : No Option Orientation : Vertical

Correct Marks : 1 Wrong Marks : 0.25

Select the most appropriate word that fills in the blank correctly and completes the sentence meaningfully.

My boss was almost _____ by his presence all over the office.

Options :

1. ✗ ultimate
2. ✓ ubiquitous
3. ✗ pernicious
4. ✗ permissible

Question Number : 133 Question Id : 99836718437 Question Type : MCQ Option Shuffling : Yes Display Question Number : Yes
Single Line Question Option : No Option Orientation : Vertical

Correct Marks : 1 Wrong Marks : 0.25

Select the most appropriate word that fills in the blank correctly and completes the sentence meaningfully.

The Major took a _____ decision and called truce.

Options :

1. ✓ momentous
2. ✗ knowledgable
3. ✗ lazy
4. ✗ inquisitive

Question Number : 133 Question Id : 99836718437 Question Type : MCQ Option Shuffling : Yes Display Question Number : Yes
Single Line Question Option : No Option Orientation : Vertical

Correct Marks : 1 Wrong Marks : 0.25

Select the most appropriate word that fills in the blank correctly and completes the sentence meaningfully.

The Major took a _____ decision and called truce.

Options :

1. ✓ momentous
2. ✗ knowledgable

3. ✘ lazy
4. ✘ inquisitive

Question Number : 134 Question Id : 99836718438 Question Type : MCQ Option Shuffling : Yes Display Question Number : Yes
Single Line Question Option : No Option Orientation : Vertical

Correct Marks : 1 Wrong Marks : 0.25

Select the most appropriate word that fills in the blank correctly and completes the sentence meaningfully.

The soldiers showed _____ courage in defeating an enemy ten times their size.

Options :

1. ✔ exemplary
2. ✘ provisional
3. ✘ affluent
4. ✘ diminutive

Question Number : 134 Question Id : 99836718438 Question Type : MCQ Option Shuffling : Yes Display Question Number : Yes
Single Line Question Option : No Option Orientation : Vertical

Correct Marks : 1 Wrong Marks : 0.25

Select the most appropriate word that fills in the blank correctly and completes the sentence meaningfully.

The soldiers showed _____ courage in defeating an enemy ten times their size.

Options :

1. ✔ exemplary
2. ✘ provisional
3. ✘ affluent
4. ✘ diminutive

Question Number : 135 Question Id : 99836718439 Question Type : MCQ Option Shuffling : Yes Display Question Number : Yes
Single Line Question Option : No Option Orientation : Vertical

Correct Marks : 1 Wrong Marks : 0.25

Select the most appropriate word that fills in the blank correctly and completes the sentence meaningfully.

My father was a _____ person for he thought before he spoke.

Options :

1. ✘ knave
2. ✔ contemplative
3. ✘ austere
4. ✘ charismatic

Question Number : 135 Question Id : 99836718439 Question Type : MCQ Option Shuffling : Yes Display Question Number : Yes
Single Line Question Option : No Option Orientation : Vertical

Correct Marks : 1 Wrong Marks : 0.25

Select the most appropriate word that fills in the blank correctly and completes the sentence meaningfully.

My father was a _____ person for he thought before he spoke.

Options :

1. ✘ knave
2. ✔ contemplative
3. ✘ austere
4. ✘ charismatic

Question Number : 136 Question Id : 99836718440 Question Type : MCQ Option Shuffling : Yes Display Question Number : Yes
Single Line Question Option : No Option Orientation : Vertical

Correct Marks : 1 Wrong Marks : 0.25

Select the most appropriate word that fills in the blank correctly and completes the sentence meaningfully.

Manya's _____ habits helped her save a fortune for her son's studies.

Options :

1. ✓ frugal
2. ✗ wasteful
3. ✗ engaging
4. ✗ avengeful

Question Number : 136 Question Id : 99836718440 Question Type : MCQ Option Shuffling : Yes Display Question Number : Yes
Single Line Question Option : No Option Orientation : Vertical

Correct Marks : 1 Wrong Marks : 0.25

Select the most appropriate word that fills in the blank correctly and completes the sentence meaningfully.

Manya's _____ habits helped her save a fortune for her son's studies.

Options :

1. ✓ frugal
2. ✗ wasteful
3. ✗ engaging
4. ✗ avengeful

Question Number : 137 Question Id : 99836718441 Question Type : MCQ Option Shuffling : Yes Display Question Number : Yes
Single Line Question Option : No Option Orientation : Vertical

Correct Marks : 1 Wrong Marks : 0.25

Select the most appropriate word that fills in the blank correctly and completes the sentence meaningfully.

The military bosses _____ with the terrorists.

Options :

1. ✗ emancipated
2. ✗ kindled
3. ✓ hobnobbed
4. ✗ fructified

Question Number : 137 Question Id : 99836718441 Question Type : MCQ Option Shuffling : Yes Display Question Number : Yes
Single Line Question Option : No Option Orientation : Vertical

Correct Marks : 1 Wrong Marks : 0.25

Select the most appropriate word that fills in the blank correctly and completes the sentence meaningfully.

The military bosses _____ with the terrorists.

Options :

1. ✗ emancipated
2. ✗ kindled
3. ✓ hobnobbed
4. ✗ fructified

Question Number : 138 Question Id : 99836718442 Question Type : MCQ Option Shuffling : Yes Display Question Number : Yes
Single Line Question Option : No Option Orientation : Vertical

Correct Marks : 1 Wrong Marks : 0.25

Select the most appropriate word that fills in the blank correctly and completes the sentence meaningfully.

What are the selection _____?

Options :

1. ✓ criteria
2. ✗ consensus
3. ✗ appraisal
4. ✗ pretentions

Question Number : 138 Question Id : 99836718442 Question Type : MCQ Option Shuffling : Yes Display Question Number : Yes
Single Line Question Option : No Option Orientation : Vertical

Correct Marks : 1 Wrong Marks : 0.25

Select the most appropriate word that fills in the blank correctly and completes the sentence meaningfully.

What are the selection _____?

Options :

1. ✓ criteria
2. ✗ consensus
3. ✗ appraisal
4. ✗ pretentions

Question Number : 139 Question Id : 99836718443 Question Type : MCQ Option Shuffling : Yes Display Question Number : Yes
Single Line Question Option : No Option Orientation : Vertical

Correct Marks : 1 Wrong Marks : 0.25

Some parts of a sentence have been jumbled up, and labeled P, Q, R and S. Select the option that gives the correct sequence in which these parts can be rearranged to form a meaningful and grammatically correct sentence.

P: ran away to take cover
Q: even when other soldiers
R: the brave and fearless
S: soldier did not leave his post

Options :

1. ✓ RSQP
2. ✗ RSPQ
3. ✗ PRQS
4. ✗ QRSP

Question Number : 139 Question Id : 99836718443 Question Type : MCQ Option Shuffling : Yes Display Question Number : Yes
Single Line Question Option : No Option Orientation : Vertical

Correct Marks : 1 Wrong Marks : 0.25

Some parts of a sentence have been jumbled up, and labeled P, Q, R and S. Select the option that gives the correct sequence in which these parts can be rearranged to form a meaningful and grammatically correct sentence.

P: ran away to take cover
Q: even when other soldiers
R: the brave and fearless
S: soldier did not leave his post

Options :

1. ✓ RSQP

- 2. ✘ RSPQ
- 3. ✘ PRQS
- 4. ✘ QRSP

Question Number : 140 Question Id : 99836718444 Question Type : MCQ Option Shuffling : Yes Display Question Number : Yes
Single Line Question Option : No Option Orientation : Vertical

Correct Marks : 1 Wrong Marks : 0.25

Some parts of a sentence have been jumbled up, and labeled P, Q, R and S. Select the option that gives the correct sequence in which these parts can be rearranged to form a meaningful and grammatically correct sentence.

P: quite frequently
R: to the hills and
Q: they travelled
S: to the beaches

Options :

- 1. ✔ QPRS
- 2. ✘ SPRQ
- 3. ✘ PRSQ
- 4. ✘ RPQS

Question Number : 140 Question Id : 99836718444 Question Type : MCQ Option Shuffling : Yes Display Question Number : Yes
Single Line Question Option : No Option Orientation : Vertical

Correct Marks : 1 Wrong Marks : 0.25

Some parts of a sentence have been jumbled up, and labeled P, Q, R and S. Select the option that gives the correct sequence in which these parts can be rearranged to form a meaningful and grammatically correct sentence.

P: quite frequently
R: to the hills and
Q: they travelled
S: to the beaches

Options :

- 1. ✔ QPRS
- 2. ✘ SPRQ
- 3. ✘ PRSQ
- 4. ✘ RPQS

General English2

Group Number :	8
Group Id :	998367657
Group Maximum Duration :	0
Group Minimum Duration :	0
Revisit allowed for view? :	No
Revisit allowed for edit? :	No
Break time:	0
Group Marks:	20
Revisit allowed for group Instructions? :	Yes
Maximum Instruction Time:	0
Minimum Instruction Time:	0

General English2

Section Id :	998367778
Section Number :	1
Section type :	Online
Mandatory or Optional:	Mandatory
Number of Questions:	16
Number of Questions to be attempted:	16
Section Marks:	20
Display Number Panel:	Yes
Group All Questions:	No

Sub-Section Number:	1
Sub-Section Id:	998367990
Question Shuffling Allowed :	Yes

Question Number : 141 Question Id : 99836718445 Question Type : MCQ Option Shuffling : Yes Display Question Number : Yes
Single Line Question Option : No Option Orientation : Vertical

Correct Marks : 1 Wrong Marks : 0.25

The sentences of a paragraph have been jumbled up, and labeled P, Q, R and S. Select the option that gives the correct sequence in which these sentences should be rearranged to form a meaningful paragraph.

P: Nobody knew his name.

Q: Nor did anyone know where he came from.

R: On the day of his departure, everyone greeted him and bade him a farewell.

S: But he left a lasting impression on whoever spoke with him.

Options :

1. ✘ SRPQ
2. ✔ PQSR
3. ✘ SRQP
4. ✘ SPRQ

Question Number : 141 Question Id : 99836718445 Question Type : MCQ Option Shuffling : Yes Display Question Number : Yes
Single Line Question Option : No Option Orientation : Vertical

Correct Marks : 1 Wrong Marks : 0.25

The sentences of a paragraph have been jumbled up, and labeled P, Q, R and S. Select the option that gives the correct sequence in which these sentences should be rearranged to form a meaningful paragraph.

P: Nobody knew his name.

Q: Nor did anyone know where he came from.

R: On the day of his departure, everyone greeted him and bade him a farewell.

S: But he left a lasting impression on whoever spoke with him.

Options :

1. ✘ SRPQ
2. ✔ PQSR
3. ✘ SRQP
4. ✘ SPRQ

Question Number : 142 Question Id : 99836718446 Question Type : MCQ Option Shuffling : Yes Display Question Number : Yes
Single Line Question Option : No Option Orientation : Vertical

Correct Marks : 1 Wrong Marks : 0.25

Select the word that is closest in meaning SYNONYM of the word given below.

REJECT

Options :

1. ✘ Meander
2. ✘ Fragment
3. ✔ Refuse
4. ✘ Choose

Question Number : 142 Question Id : 99836718446 Question Type : MCQ Option Shuffling : Yes Display Question Number : Yes
Single Line Question Option : No Option Orientation : Vertical

Correct Marks : 1 Wrong Marks : 0.25

Select the word that is closest in meaning SYNONYM of the word given below.

REJECT

Options :

1. ✘ Meander
2. ✘ Fragment
3. ✔ Refuse
4. ✘ Choose

Question Number : 143 Question Id : 99836718447 Question Type : MCQ Option Shuffling : Yes Display Question Number : Yes
Single Line Question Option : No Option Orientation : Vertical

Correct Marks : 1 Wrong Marks : 0.25

Select the word that is opposite in meaning ANTONYM of the word given below.

HONEST

Options :

1. ✘ Incredible
2. ✘ Credible
3. ✘ Decrepit
4. ✔ Deceptive

Question Number : 143 Question Id : 99836718447 Question Type : MCQ Option Shuffling : Yes Display Question Number : Yes
Single Line Question Option : No Option Orientation : Vertical

Correct Marks : 1 Wrong Marks : 0.25

Select the word that is opposite in meaning ANTONYM of the word given below.

HONEST

Options :

1. ✘ Incredible
2. ✘ Credible
3. ✘ Decrepit
4. ✔ Deceptive

Question Number : 144 Question Id : 99836718448 Question Type : MCQ Option Shuffling : Yes Display Question Number : Yes
Single Line Question Option : No Option Orientation : Vertical

Correct Marks : 1 Wrong Marks : 0.25

Select the word that is closest in meaning SYNONYM to the word given below.

IMPISH

Options :

1. ✓ Mischievous
2. ✗ Merry
3. ✗ Punishable
4. ✗ Victorious

Question Number : 144 Question Id : 99836718448 Question Type : MCQ Option Shuffling : Yes Display Question Number : Yes
Single Line Question Option : No Option Orientation : Vertical

Correct Marks : 1 Wrong Marks : 0.25

Select the word that is closest in meaning SYNONYM to the word given below.

IMPISH

Options :

1. ✓ Mischievous
2. ✗ Merry
3. ✗ Punishable
4. ✗ Victorious

Question Number : 145 Question Id : 99836718449 Question Type : MCQ Option Shuffling : Yes Display Question Number : Yes
Single Line Question Option : No Option Orientation : Vertical

Correct Marks : 1 Wrong Marks : 0.25

Select the word that is opposite in meaning ANTONYM of the word given below.

ENDURE

Options :

1. ✗ Destroy
2. ✓ Yield
3. ✗ Defeat
4. ✗ Foment

Question Number : 145 Question Id : 99836718449 Question Type : MCQ Option Shuffling : Yes Display Question Number : Yes
Single Line Question Option : No Option Orientation : Vertical

Correct Marks : 1 Wrong Marks : 0.25

Select the word that is opposite in meaning ANTONYM of the word given below.

ENDURE

Options :

1. ✗ Destroy
2. ✓ Yield
3. ✗ Defeat
4. ✗ Foment

Question Number : 146 Question Id : 99836718450 Question Type : MCQ Option Shuffling : Yes Display Question Number : Yes
Single Line Question Option : No Option Orientation : Vertical

Correct Marks : 1 Wrong Marks : 0.25

Select the correct word that fills in the blank and makes the sentence meaningful.

Only a _____ person can kill a child.

Options :

1. ✘ terrific
2. ✔ terrible
3. ✘ tearble
4. ✘ tierable

Question Number : 146 Question Id : 99836718450 Question Type : MCQ Option Shuffling : Yes Display Question Number : Yes
Single Line Question Option : No Option Orientation : Vertical

Correct Marks : 1 Wrong Marks : 0.25

Select the correct word that fills in the blank and makes the sentence meaningful.

Only a _____ person can kill a child.

Options :

1. ✘ terrific
2. ✔ terrible
3. ✘ tearble
4. ✘ tierable

Question Number : 147 Question Id : 99836718451 Question Type : MCQ Option Shuffling : Yes Display Question Number : Yes
Single Line Question Option : No Option Orientation : Vertical

Correct Marks : 1 Wrong Marks : 0.25

Four words are given, out of which only one word is spelt correctly. Choose the correctly spelt word.

Options :

1. ✔ Forecast
2. ✘ Forcast
3. ✘ Fourcast
4. ✘ Foarcast

Question Number : 147 Question Id : 99836718451 Question Type : MCQ Option Shuffling : Yes Display Question Number : Yes
Single Line Question Option : No Option Orientation : Vertical

Correct Marks : 1 Wrong Marks : 0.25

Four words are given, out of which only one word is spelt correctly. Choose the correctly spelt word.

Options :

1. ✔ Forecast
2. ✘ Forcast
3. ✘ Fourcast
4. ✘ Foarcast

Question Number : 148 Question Id : 99836718452 Question Type : MCQ Option Shuffling : Yes Display Question Number : Yes
Single Line Question Option : No Option Orientation : Vertical

Correct Marks : 1 Wrong Marks : 0.25

Four words are given, out of which only one word is spelt correctly. Choose the correctly spelt word.

Options :

1. ✘ Calender
2. ✘ Calandar
3. ✔ Calendar
4. ✘ Calander

Question Number : 148 Question Id : 99836718452 Question Type : MCQ Option Shuffling : Yes Display Question Number : Yes
Single Line Question Option : No Option Orientation : Vertical

Correct Marks : 1 Wrong Marks : 0.25

Four words are given, out of which only one word is spelt correctly. Choose the correctly spelt word.

Options :

1. ✘ Calender
2. ✘ Calandar
3. ✔ Calendar
4. ✘ Calander

Question Number : 149 Question Id : 99836718453 Question Type : MCQ Option Shuffling : Yes Display Question Number : Yes
Single Line Question Option : No Option Orientation : Vertical

Correct Marks : 1 Wrong Marks : 0.25

Four words are given, out of which only one word is spelt correctly. Choose the correctly spelt word.

Options :

1. ✘ Aquisition
2. ✘ Acquiscition
3. ✘ Acquisation
4. ✔ Acquisition

Question Number : 149 Question Id : 99836718453 Question Type : MCQ Option Shuffling : Yes Display Question Number : Yes
Single Line Question Option : No Option Orientation : Vertical

Correct Marks : 1 Wrong Marks : 0.25

Four words are given, out of which only one word is spelt correctly. Choose the correctly spelt word.

Options :

1. ✘ Aquisition
2. ✘ Acquiscition
3. ✘ Acquisation
4. ✔ Acquisition

Question Number : 150 Question Id : 99836718454 Question Type : MCQ Option Shuffling : Yes Display Question Number : Yes
Single Line Question Option : No Option Orientation : Vertical

Correct Marks : 1 Wrong Marks : 0.25

Select the option that best expresses the meaning of the idiom or phrase given below.

A dime a dozen

Options :

1. ✔ Very common or commonplace
2. ✘ Very rich person
3. ✘ Very stingy person
4. ✘ Something that is very costly and expensive

Question Number : 150 Question Id : 99836718454 Question Type : MCQ Option Shuffling : Yes Display Question Number : Yes
Single Line Question Option : No Option Orientation : Vertical

Correct Marks : 1 Wrong Marks : 0.25

Select the option that best expresses the meaning of the idiom or phrase given below.

A dime a dozen

Options :

1. ✔ Very common or commonplace

- ✘ Very rich person
- ✘ Very stingy person
- ✘ Something that is very costly and expensive

Question Number : 151 Question Id : 99836718455 Question Type : MCQ Option Shuffling : Yes Display Question Number : Yes
Single Line Question Option : No Option Orientation : Vertical

Correct Marks : 1 Wrong Marks : 0.25

Select the option that best expresses the meaning of the idiom or phrase given below.

Hit the road

Options :

- ✘ Be very angry
- ✔ Begin one's journey
- ✘ To stop one's journey
- ✘ To dig the road

Question Number : 151 Question Id : 99836718455 Question Type : MCQ Option Shuffling : Yes Display Question Number : Yes
Single Line Question Option : No Option Orientation : Vertical

Correct Marks : 1 Wrong Marks : 0.25

Select the option that best expresses the meaning of the idiom or phrase given below.

Hit the road

Options :

- ✘ Be very angry
- ✔ Begin one's journey
- ✘ To stop one's journey
- ✘ To dig the road

Question Number : 152 Question Id : 99836718456 Question Type : MCQ Option Shuffling : Yes Display Question Number : Yes
Single Line Question Option : No Option Orientation : Vertical

Correct Marks : 1 Wrong Marks : 0.25

Select the option that best expresses the meaning of the idiom or phrase given below.

Once in a blue moon

Options :

- ✔ Once in a while, infrequently
- ✘ Rely on outward appearances
- ✘ In the nature's lap
- ✘ Very bright and pleasant night

Question Number : 152 Question Id : 99836718456 Question Type : MCQ Option Shuffling : Yes Display Question Number : Yes
Single Line Question Option : No Option Orientation : Vertical

Correct Marks : 1 Wrong Marks : 0.25

Select the option that best expresses the meaning of the idiom or phrase given below.

Once in a blue moon

Options :

- ✔ Once in a while, infrequently
- ✘ Rely on outward appearances
- ✘ In the nature's lap

4. ✘ Very bright and pleasant night

Question Number : 153 Question Id : 99836718457 Question Type : MCQ Option Shuffling : Yes Display Question Number : Yes
Single Line Question Option : No Option Orientation : Vertical

Correct Marks : 1 Wrong Marks : 0.25

Select the most appropriate 'one word ' for the expressions given below.

A state, society, or group governed by old people

Options :

1. ✘ Democracy
2. ✔ Gerontocracy
3. ✘ Oligarchy
4. ✘ Ochlocracy

Question Number : 153 Question Id : 99836718457 Question Type : MCQ Option Shuffling : Yes Display Question Number : Yes
Single Line Question Option : No Option Orientation : Vertical

Correct Marks : 1 Wrong Marks : 0.25

Select the most appropriate 'one word ' for the expressions given below.

A state, society, or group governed by old people

Options :

1. ✘ Democracy
2. ✔ Gerontocracy
3. ✘ Oligarchy
4. ✘ Ochlocracy

Question Number : 154 Question Id : 99836718458 Question Type : MCQ Option Shuffling : Yes Display Question Number : Yes
Single Line Question Option : No Option Orientation : Vertical

Correct Marks : 1 Wrong Marks : 0.25

Select the most appropriate 'one word ' for the expressions given below.

A system of government by one person with absolute power

Options :

1. ✔ Autocracy
2. ✘ Aristocracy
3. ✘ Neocracy
4. ✘ Thearchy

Question Number : 154 Question Id : 99836718458 Question Type : MCQ Option Shuffling : Yes Display Question Number : Yes
Single Line Question Option : No Option Orientation : Vertical

Correct Marks : 1 Wrong Marks : 0.25

Select the most appropriate 'one word ' for the expressions given below.

A system of government by one person with absolute power

Options :

1. ✔ Autocracy
2. ✘ Aristocracy
3. ✘ Neocracy
4. ✘ Thearchy

Question Number : 155 Question Id : 99836718459 Question Type : MCQ Option Shuffling : Yes Display Question Number : Yes
Single Line Question Option : No Option Orientation : Vertical

Correct Marks : 1 Wrong Marks : 0.25

Select the most appropriate 'one word ' for the expressions given below.

An extreme or irrational fear of open or public places

Options :

1. ✘ Bathophobia
2. ✘ Cacophobia
3. ✔ Agoraphobia
4. ✘ Nyctophobia

Question Number : 155 Question Id : 99836718459 Question Type : MCQ Option Shuffling : Yes Display Question Number : Yes
Single Line Question Option : No Option Orientation : Vertical

Correct Marks : 1 Wrong Marks : 0.25

Select the most appropriate 'one word ' for the expressions given below.

An extreme or irrational fear of open or public places

Options :

1. ✘ Bathophobia
2. ✘ Cacophobia
3. ✔ Agoraphobia
4. ✘ Nyctophobia

Sub-Section Number:	2
Sub-Section Id:	998367991
Question Shuffling Allowed :	Yes

Question Id : 99836718460 Question Type : COMPREHENSION Sub Question Shuffling Allowed : Yes Group Comprehension
Questions : No

Question Numbers : (156 to 160)

Question Label : Comprehension

Read the below passage and answer the questions that follow.

Bhutan, officially the Kingdom of Bhutan is a landlocked country in South Asia. Located in the Eastern Himalayas, it is bordered by the Tibetan Autonomous Region of China in the north, the Sikkim state of India and the Chumbi Valley of Tibet in the west, the Arunachal Pradesh state of India in the east, and the states of Assam and West Bengal in the south. Bhutan is geopolitically in South Asia and is the region's second least populous nation after the Maldives. Thimphu is its capital and the largest city, while Phuntsholing is its financial center.

The independence of Bhutan has endured for centuries and it has never been colonized in its history. Situated on the ancient Silk Road between Tibet, the Indian subcontinent and Southeast Asia, the Bhutanese state developed a distinct national identity based on Buddhism. Headed by a spiritual leader known as the Zhabdrung Rinpoche, the territory was composed of many fiefdoms and governed as a Buddhist theocracy. Following a civil war in the 19th century, the House of Wangchuck reunited the country and established relations with the British Empire. Bhutan fostered a strategic partnership with India during the rise of Chinese communism and has a disputed border with China. In 2008, Bhutan transitioned from an absolute monarchy to a constitutional monarchy and held the first election to the National Assembly of Bhutan. The National Assembly of Bhutan is part of the bicameral parliament of the Bhutanese democracy.

Sub questions

Question Number : 156 Question Id : 99836718461 Question Type : MCQ Option Shuffling : Yes Display Question Number : Yes
Single Line Question Option : No Option Orientation : Vertical

Correct Marks : 1 Wrong Marks : 0.25

What lies to the North of Bhutan?

Options :

1. ✘ Sikkim state of India
2. ✘ Himalayan mountains of Nepal
3. ✔ Tibetan Autonomous Region of China
4. ✘ Hilly region of West Bengal

Question Number : 157 Question Id : 99836718462 Question Type : MCQ Option Shuffling : Yes Display Question Number : Yes
Single Line Question Option : No Option Orientation : Vertical

Correct Marks : 1 Wrong Marks : 0.25

Which is the financial centre of Bhutan?

Options :

1. ✘ Thimphu
2. ✔ Phuntsholing
3. ✘ Zhabdrung
4. ✘ Rinpoche

Question Number : 158 Question Id : 99836718463 Question Type : MCQ Option Shuffling : Yes Display Question Number : Yes
Single Line Question Option : No Option Orientation : Vertical

Correct Marks : 1 Wrong Marks : 0.25

According to the passage, which is the least populous nation geopolitically in South Asia?

Options :

1. ✘ Bhutan
2. ✘ Tibet
3. ✔ The Maldives
4. ✘ Nepal

Question Number : 159 Question Id : 99836718464 Question Type : MCQ Option Shuffling : Yes Display Question Number : Yes
Single Line Question Option : No Option Orientation : Vertical

Correct Marks : 1 Wrong Marks : 0.25

Bhutan has a disputed border with which country?

Options :

1. ✘ Nepal
2. ✔ China
3. ✘ India
4. ✘ Myanmar

Question Number : 160 Question Id : 99836718465 Question Type : MCQ Option Shuffling : Yes Display Question Number : Yes
Single Line Question Option : No Option Orientation : Vertical

Correct Marks : 1 Wrong Marks : 0.25

What is the spiritual (Buddhist) leader in Bhutan called?

Options :

1. ✘ Phuntsholing
2. ✔ Zhabdrung Rinpoche
3. ✘ Wangchuck
4. ✘ Chumbi

Question Id : 99836718460 Question Type : COMPREHENSION Sub Question Shuffling Allowed : Yes Group Comprehension Questions : No

Question Numbers : (156 to 160)

Question Label : Comprehension

Read the below passage and answer the questions that follow.

Bhutan, officially the Kingdom of Bhutan is a landlocked country in South Asia. Located in the Eastern Himalayas, it is bordered by the Tibetan Autonomous Region of China in the north, the Sikkim state of India and the Chumbi Valley of Tibet in the west, the Arunachal Pradesh state of India in the east, and the states of Assam and West Bengal in the south. Bhutan is geopolitically in South Asia and is the region's second least populous nation after the Maldives. Thimphu is its capital and the largest city, while Phuntsholing is its financial center.

The independence of Bhutan has endured for centuries and it has never been colonized in its history. Situated on the ancient Silk Road between Tibet, the Indian subcontinent and Southeast Asia, the Bhutanese state developed a distinct national identity based on Buddhism. Headed by a spiritual leader known as the Zhabdrung Rinpoche, the territory was composed of many fiefdoms and governed as a Buddhist theocracy. Following a civil war in the 19th century, the House of Wangchuck reunited the country and established relations with the British Empire. Bhutan fostered a strategic partnership with India during the rise of Chinese communism and has a disputed border with China. In 2008, Bhutan transitioned from an absolute monarchy to a constitutional monarchy and held the first election to the National Assembly of Bhutan. The National Assembly of Bhutan is part of the bicameral parliament of the Bhutanese democracy.

Sub questions

Question Number : 156 Question Id : 99836718461 Question Type : MCQ Option Shuffling : Yes Display Question Number : Yes Single Line Question Option : No Option Orientation : Vertical

Correct Marks : 1 Wrong Marks : 0.25

What lies to the North of Bhutan?

Options :

- ✘ Sikkim state of India
- ✘ Himalayan mountains of Nepal
- ✔ Tibetan Autonomous Region of China
- ✘ Hilly region of West Bengal

Question Number : 157 Question Id : 99836718462 Question Type : MCQ Option Shuffling : Yes Display Question Number : Yes Single Line Question Option : No Option Orientation : Vertical

Correct Marks : 1 Wrong Marks : 0.25

Which is the financial centre of Bhutan?

Options :

- ✘ Thimphu
- ✔ Phuntsholing
- ✘ Zhabdrung
- ✘ Rinpoche

Question Number : 158 Question Id : 99836718463 Question Type : MCQ Option Shuffling : Yes Display Question Number : Yes Single Line Question Option : No Option Orientation : Vertical

Correct Marks : 1 Wrong Marks : 0.25

According to the passage, which is the least populous nation geopolitically in South Asia?

Options :

- ✘ Bhutan
- ✘ Tibet
- ✔ The Maldives

4. ✘ Nepal

Question Number : 159 Question Id : 99836718464 Question Type : MCQ Option Shuffling : Yes Display Question Number : Yes
Single Line Question Option : No Option Orientation : Vertical

Correct Marks : 1 Wrong Marks : 0.25

Bhutan has a disputed border with which country?

Options :

1. ✘ Nepal
2. ✔ China
3. ✘ India
4. ✘ Myanmar

Question Number : 160 Question Id : 99836718465 Question Type : MCQ Option Shuffling : Yes Display Question Number : Yes
Single Line Question Option : No Option Orientation : Vertical

Correct Marks : 1 Wrong Marks : 0.25

What is the spiritual (Buddhist) leader in Bhutan called?

Options :

1. ✘ Phuntsholing
2. ✔ Zhabdrung Rinpoche
3. ✘ Wangchuck
4. ✘ Chumbi

General Hindi 1

Group Number :	9
Group Id :	998367658
Group Maximum Duration :	0
Group Minimum Duration :	0
Revisit allowed for view? :	No
Revisit allowed for edit? :	No
Break time:	0
Group Marks:	20
Revisit allowed for group Instructions? :	Yes
Maximum Instruction Time:	0
Minimum Instruction Time:	0

General Hindi 1

Section Id :	998367779
Section Number :	1
Section type :	Online
Mandatory or Optional:	Mandatory
Number of Questions:	20
Number of Questions to be attempted:	20
Section Marks:	20
Display Number Panel:	Yes
Group All Questions:	No

Sub-Section Number: 1
Sub-Section Id: 998367992
Question Shuffling Allowed : Yes

Question Number : 161 Question Id : 99836718466 Question Type : MCQ Option Shuffling : Yes Display Question Number : Yes
Single Line Question Option : No Option Orientation : Vertical

Correct Marks : 1 Wrong Marks : 0.25

निम्नलिखित प्रश्न में, चार विकल्पों में से, उस विकल्प का चयन करें जो उपसर्ग से बने शब्द का सही विकल्प नहीं हो

Options :

1. ✘ आदान
2. ✔ उड़ाऊ
3. ✘ नियम
4. ✘ स्वराज्य

Question Number : 161 Question Id : 99836718466 Question Type : MCQ Option Shuffling : Yes Display Question Number : Yes
Single Line Question Option : No Option Orientation : Vertical

Correct Marks : 1 Wrong Marks : 0.25

निम्नलिखित प्रश्न में, चार विकल्पों में से, उस विकल्प का चयन करें जो उपसर्ग से बने शब्द का सही विकल्प नहीं हो

Options :

1. ✘ आदान
2. ✔ उड़ाऊ
3. ✘ नियम
4. ✘ स्वराज्य

Question Number : 162 Question Id : 99836718467 Question Type : MCQ Option Shuffling : Yes Display Question Number : Yes
Single Line Question Option : No Option Orientation : Vertical

Correct Marks : 1 Wrong Marks : 0.25

निम्नलिखित प्रश्न में, चार विकल्पों में से, उस विकल्प का चयन करें जो प्रत्यय से बने शब्द का सही विकल्प नहीं हो

Options :

1. ✔ समवयस्क
2. ✘ दयालू
3. ✘ बिछौना
4. ✘ बढ़िया

Question Number : 162 Question Id : 99836718467 Question Type : MCQ Option Shuffling : Yes Display Question Number : Yes
Single Line Question Option : No Option Orientation : Vertical

Correct Marks : 1 Wrong Marks : 0.25

निम्नलिखित प्रश्न में, चार विकल्पों में से, उस विकल्प का चयन करें जो प्रत्यय से बने शब्द का सही विकल्प नहीं हो

Options :

1. ✔ समवयस्क
2. ✘ दयालू
3. ✘ बिछौना
4. ✘ बढ़िया

Question Number : 163 Question Id : 99836718468 Question Type : MCQ Option Shuffling : Yes Display Question Number : Yes
Single Line Question Option : No Option Orientation : Vertical

Correct Marks : 1 Wrong Marks : 0.25

निम्नलिखित प्रश्न में, चार विकल्पों में से, उस विकल्प का चयन करें जो दिए गए शब्द के लिए सही तत्पुरुष समास के विग्रह का विकल्प हो

डाकगाड़ी

Options :

1. ✘ डाक से गाड़ी
2. ✔ डाक के लिए गाड़ी
3. ✘ डाक पर गाड़ी
4. ✘ डाक में गाड़ी

Question Number : 163 Question Id : 99836718468 Question Type : MCQ Option Shuffling : Yes Display Question Number : Yes
Single Line Question Option : No Option Orientation : Vertical

Correct Marks : 1 Wrong Marks : 0.25

निम्नलिखित प्रश्न में, चार विकल्पों में से, उस विकल्प का चयन करें जो दिए गए शब्द के लिए सही तत्पुरुष समास के विग्रह का विकल्प हो।

डाकगाड़ी

Options :

1. ✘ डाक से गाड़ी
2. ✔ डाक के लिए गाड़ी
3. ✘ डाक पर गाड़ी
4. ✘ डाक में गाड़ी

Question Number : 164 Question Id : 99836718469 Question Type : MCQ Option Shuffling : Yes Display Question Number : Yes
Single Line Question Option : No Option Orientation : Vertical

Correct Marks : 1 Wrong Marks : 0.25

निम्नलिखित प्रश्न में, चार विकल्पों में से, उस विकल्प का चयन करें जो क्रिया के भेद वाला सही विकल्प हो।

प्रेरणा पढ़ाई कर रही है।

Options :

1. ✘ पूर्वकालिक क्रिया
2. ✘ नामधातु
3. ✘ प्रेरणार्थक क्रिया
4. ✔ संयुक्त क्रिया

Question Number : 164 Question Id : 99836718469 Question Type : MCQ Option Shuffling : Yes Display Question Number : Yes
Single Line Question Option : No Option Orientation : Vertical

Correct Marks : 1 Wrong Marks : 0.25

निम्नलिखित प्रश्न में, चार विकल्पों में से, उस विकल्प का चयन करें जो क्रिया के भेद वाला सही विकल्प हो।

प्रेरणा पढ़ाई कर रही है।

Options :

1. ✘ पूर्वकालिक क्रिया
2. ✘ नामधातु
3. ✘ प्रेरणार्थक क्रिया
4. ✔ संयुक्त क्रिया

Question Number : 165 Question Id : 99836718470 Question Type : MCQ Option Shuffling : Yes Display Question Number : Yes
Single Line Question Option : No Option Orientation : Vertical

Correct Marks : 1 Wrong Marks : 0.25

निम्नलिखित प्रश्न में, चार विकल्पों में से, उस विकल्प का चयन करें जो दिए गए वाक्य के लिए अव्यय के भेद का सही विकल्प हो।

वह दिन भर खेत में काम करता है।

Options :

1. ✘ परिमाणवाचक क्रियाविशेषण अव्यय

2. ✘ स्थानवाचक क्रियाविशेषण अव्यय
3. ✘ रीतिवाचक क्रियाविशेषण अव्यय
4. ✔ कालवाचक क्रियाविशेषण अव्यय

Question Number : 165 Question Id : 99836718470 Question Type : MCQ Option Shuffling : Yes Display Question Number : Yes
Single Line Question Option : No Option Orientation : Vertical

Correct Marks : 1 Wrong Marks : 0.25

निम्नलिखित प्रश्न में, चार विकल्पों में से, उस विकल्प का चयन करें जो दिए गए वाक्य के लिए अव्यय के भेद का सही विकल्प हो।

वह दिन भर खेत में काम करता है।

Options :

1. ✘ परिमाणवाचक क्रियाविशेषण अव्यय
2. ✘ स्थानवाचक क्रियाविशेषण अव्यय
3. ✘ रीतिवाचक क्रियाविशेषण अव्यय
4. ✔ कालवाचक क्रियाविशेषण अव्यय

Question Number : 166 Question Id : 99836718471 Question Type : MCQ Option Shuffling : Yes Display Question Number : Yes
Single Line Question Option : No Option Orientation : Vertical

Correct Marks : 1 Wrong Marks : 0.25

निम्नलिखित प्रश्न में, चार विकल्पों में से, उस विकल्प का चयन करें जो दिए गए शब्द के पर्यायवाची शब्द का सही विकल्प नहीं है।

तनिक

Options :

1. ✘ नाममात्र
2. ✘ किंचित
3. ✘ लवलेश
4. ✔ भीषण

Question Number : 166 Question Id : 99836718471 Question Type : MCQ Option Shuffling : Yes Display Question Number : Yes
Single Line Question Option : No Option Orientation : Vertical

Correct Marks : 1 Wrong Marks : 0.25

निम्नलिखित प्रश्न में, चार विकल्पों में से, उस विकल्प का चयन करें जो दिए गए शब्द के पर्यायवाची शब्द का सही विकल्प नहीं है।

तनिक

Options :

1. ✘ नाममात्र
2. ✘ किंचित
3. ✘ लवलेश
4. ✔ भीषण

Question Number : 167 Question Id : 99836718472 Question Type : MCQ Option Shuffling : Yes Display Question Number : Yes
Single Line Question Option : No Option Orientation : Vertical

Correct Marks : 1 Wrong Marks : 0.25

निम्नलिखित प्रश्न में, चार विकल्पों में से, उस विकल्प का चयन करें जो दिए गए शब्द के पर्यायवाची शब्द का सही विकल्प नहीं है।

तीव्र

Options :

1. ✘ प्रबल
2. ✔ कातर
3. ✘ क्षिप्र

4. ✘ दूत

Question Number : 167 Question Id : 99836718472 Question Type : MCQ Option Shuffling : Yes Display Question Number : Yes
Single Line Question Option : No Option Orientation : Vertical

Correct Marks : 1 Wrong Marks : 0.25

निम्नलिखित प्रश्न में, चार विकल्पों में से, उस विकल्प का चयन करें जो दिए गए शब्द के पर्यायवाची शब्द का सही विकल्प नहीं है।

तीव्र

Options :

1. ✘ प्रबल
2. ✔ कातर
3. ✘ क्षिप्र
4. ✘ दूत

Question Number : 168 Question Id : 99836718473 Question Type : MCQ Option Shuffling : Yes Display Question Number : Yes
Single Line Question Option : No Option Orientation : Vertical

Correct Marks : 1 Wrong Marks : 0.25

निम्नलिखित प्रश्न में, चार विकल्पों में से, उस विकल्प का चयन करें जो दिए गए शब्द के विलोम शब्द का सही विकल्प है।

अल्पज्ञ

Options :

1. ✔ बहुज्ञ
2. ✘ विज्ञ
3. ✘ कमी
4. ✘ बाह्य

Question Number : 168 Question Id : 99836718473 Question Type : MCQ Option Shuffling : Yes Display Question Number : Yes
Single Line Question Option : No Option Orientation : Vertical

Correct Marks : 1 Wrong Marks : 0.25

निम्नलिखित प्रश्न में, चार विकल्पों में से, उस विकल्प का चयन करें जो दिए गए शब्द के विलोम शब्द का सही विकल्प है।

अल्पज्ञ

Options :

1. ✔ बहुज्ञ
2. ✘ विज्ञ
3. ✘ कमी
4. ✘ बाह्य

Question Number : 169 Question Id : 99836718474 Question Type : MCQ Option Shuffling : Yes Display Question Number : Yes
Single Line Question Option : No Option Orientation : Vertical

Correct Marks : 1 Wrong Marks : 0.25

निम्नलिखित प्रश्न में, चार विकल्पों में से, उस विकल्प का चयन करें जो दिए गए शब्द के विलोम शब्द का सही विकल्प है।

ग्राह्य

Options :

1. ✘ लज्जा
2. ✘ प्रकट
3. ✔ त्याज्य
4. ✘ परवर्ती

Question Number : 169 Question Id : 99836718474 Question Type : MCQ Option Shuffling : Yes Display Question Number : Yes
Single Line Question Option : No Option Orientation : Vertical

Correct Marks : 1 Wrong Marks : 0.25

निम्नलिखित प्रश्न में, चार विकल्पों में से, उस विकल्प का चयन करें जो दिए गए शब्द के विलोम शब्द का सही विकल्प है।

ग्राह्य

Options :

1. ✘ लज्जा
2. ✘ प्रकट
3. ✔ त्याज्य
4. ✘ परवर्ती

Question Number : 170 Question Id : 99836718475 Question Type : MCQ Option Shuffling : Yes Display Question Number : Yes
Single Line Question Option : No Option Orientation : Vertical

Correct Marks : 1 Wrong Marks : 0.25

निम्नलिखित प्रश्न में, चार विकल्पों में से, उस सही विकल्प का चयन करें जो दिए गए शब्द-युग्म के अर्थ का सही विकल्प हो।

शिरा-सिरा

Options :

1. ✘ सिर और छोर
2. ✘ मर्यादा और नाड़ी
3. ✔ नाड़ी और छोर
4. ✘ स्थिरता और नाड़ी

Question Number : 170 Question Id : 99836718475 Question Type : MCQ Option Shuffling : Yes Display Question Number : Yes
Single Line Question Option : No Option Orientation : Vertical

Correct Marks : 1 Wrong Marks : 0.25

निम्नलिखित प्रश्न में, चार विकल्पों में से, उस सही विकल्प का चयन करें जो दिए गए शब्द-युग्म के अर्थ का सही विकल्प हो।

शिरा-सिरा

Options :

1. ✘ सिर और छोर
2. ✘ मर्यादा और नाड़ी
3. ✔ नाड़ी और छोर
4. ✘ स्थिरता और नाड़ी

Question Number : 171 Question Id : 99836718476 Question Type : MCQ Option Shuffling : Yes Display Question Number : Yes
Single Line Question Option : No Option Orientation : Vertical

Correct Marks : 1 Wrong Marks : 0.25

निम्नलिखित प्रश्न में, चार विकल्पों में से, उस विकल्प का चयन करें जो दिए गए वाक्यांश के लिए एक शब्द का सही विकल्प है।

जिसे संसार के प्रति मोह न रहा हो

Options :

1. ✘ विप्रसू
2. ✘ विश्वस्त
3. ✔ वीतरागी
4. ✘ शैव

Question Number : 171 Question Id : 99836718476 Question Type : MCQ Option Shuffling : Yes Display Question Number : Yes
Single Line Question Option : No Option Orientation : Vertical

Correct Marks : 1 Wrong Marks : 0.25

निम्नलिखित प्रश्न में, चार विकल्पों में से, उस विकल्प का चयन करें जो दिए गए वाक्यांश के लिए एक शब्द का सही विकल्प है।

जिसे संसार के प्रति मोह न रहा हो

Options :

1. ✘ विप्रसू
2. ✘ विश्वस्त
3. ✔ वीतरागी
4. ✘ शैव

Question Number : 172 Question Id : 99836718477 Question Type : MCQ Option Shuffling : Yes Display Question Number : Yes
Single Line Question Option : No Option Orientation : Vertical

Correct Marks : 1 Wrong Marks : 0.25

निम्नलिखित प्रश्न में, चार विकल्पों में से, उस सही विकल्प का चयन करें जो रिक्त स्थान के लिए उचित विकल्प हो।

मेरी माता जी के घुटने में _____ की शिकायत है।

Options :

1. ✘ बात
2. ✔ वात
3. ✘ वार्ता
4. ✘ सात

Question Number : 172 Question Id : 99836718477 Question Type : MCQ Option Shuffling : Yes Display Question Number : Yes
Single Line Question Option : No Option Orientation : Vertical

Correct Marks : 1 Wrong Marks : 0.25

निम्नलिखित प्रश्न में, चार विकल्पों में से, उस सही विकल्प का चयन करें जो रिक्त स्थान के लिए उचित विकल्प हो।

मेरी माता जी के घुटने में _____ की शिकायत है।

Options :

1. ✘ बात
2. ✔ वात
3. ✘ वार्ता
4. ✘ सात

Question Number : 173 Question Id : 99836718478 Question Type : MCQ Option Shuffling : Yes Display Question Number : Yes
Single Line Question Option : No Option Orientation : Vertical

Correct Marks : 1 Wrong Marks : 0.25

निम्नलिखित प्रश्न में, चार विकल्पों में से, उस विकल्प का चयन करें जो दिए गए शब्द के समानार्थी शब्द का विकल्प नहीं है।

याम

Options :

1. ✔ सुध
2. ✘ पहर
3. ✘ प्रहर
4. ✘ बेला

Question Number : 173 Question Id : 99836718478 Question Type : MCQ Option Shuffling : Yes Display Question Number : Yes
Single Line Question Option : No Option Orientation : Vertical

Correct Marks : 1 Wrong Marks : 0.25

निम्नलिखित प्रश्न में, चार विकल्पों में से, उस विकल्प का चयन करें जो दिए गए शब्द के समानार्थी शब्द का विकल्प नहीं है।

याम

Options :

1. ✓ सुध
2. ✗ पहर
3. ✗ प्रहर
4. ✗ बेला

Question Number : 174 Question Id : 99836718479 Question Type : MCQ Option Shuffling : Yes Display Question Number : Yes
Single Line Question Option : No Option Orientation : Vertical

Correct Marks : 1 Wrong Marks : 0.25

निम्नलिखित प्रश्न में, चार विकल्पों में से, उस सही विकल्प का चयन करें जो रिक्त स्थान के लिए उपयुक्त शब्द का सही विकल्प है।

तुम _____ पुस्तक पढ़ो।

Options :

1. ✗ तुम्हारी
2. ✓ अपनी
3. ✗ तुमका
4. ✗ अपना

Question Number : 174 Question Id : 99836718479 Question Type : MCQ Option Shuffling : Yes Display Question Number : Yes
Single Line Question Option : No Option Orientation : Vertical

Correct Marks : 1 Wrong Marks : 0.25

निम्नलिखित प्रश्न में, चार विकल्पों में से, उस सही विकल्प का चयन करें जो रिक्त स्थान के लिए उपयुक्त शब्द का सही विकल्प है।

तुम _____ पुस्तक पढ़ो।

Options :

1. ✗ तुम्हारी
2. ✓ अपनी
3. ✗ तुमका
4. ✗ अपना

Question Number : 175 Question Id : 99836718480 Question Type : MCQ Option Shuffling : Yes Display Question Number : Yes
Single Line Question Option : No Option Orientation : Vertical

Correct Marks : 1 Wrong Marks : 0.25

निम्नलिखित प्रश्न में, चार विकल्पों में से, उस विकल्प का चयन करें जो शुद्ध शब्द का सही विकल्प है।

Options :

1. ✓ चतुर्मुख
2. ✗ चातुरामुख
3. ✗ चतूरमुख
4. ✗ चतुर्मूख

Question Number : 175 Question Id : 99836718480 Question Type : MCQ Option Shuffling : Yes Display Question Number : Yes
Single Line Question Option : No Option Orientation : Vertical

Correct Marks : 1 Wrong Marks : 0.25

निम्नलिखित प्रश्न में, चार विकल्पों में से, उस विकल्प का चयन करें जो शुद्ध शब्द का सही विकल्प है।

Options :

1. ✓ चतुर्मुख
2. ✗ चातुरामुख
3. ✗ चतूरमुख
4. ✗ चतुर्मूख

Question Number : 176 Question Id : 99836718481 Question Type : MCQ Option Shuffling : Yes Display Question Number : Yes
Single Line Question Option : No Option Orientation : Vertical

Correct Marks : 1 Wrong Marks : 0.25

निम्नलिखित प्रश्न में, चार विकल्पों में से, उस विकल्प का चयन करें जो सदा स्त्रीलिंग वाला शब्द है

Options :

1. ✘ ज्येष्ठ
2. ✘ मोटापा
3. ✔ सरसराहट
4. ✘ व्यापारी

Question Number : 176 Question Id : 99836718481 Question Type : MCQ Option Shuffling : Yes Display Question Number : Yes
Single Line Question Option : No Option Orientation : Vertical

Correct Marks : 1 Wrong Marks : 0.25

निम्नलिखित प्रश्न में, चार विकल्पों में से, उस विकल्प का चयन करें जो सदा स्त्रीलिंग वाला शब्द है

Options :

1. ✘ ज्येष्ठ
2. ✘ मोटापा
3. ✔ सरसराहट
4. ✘ व्यापारी

Question Number : 177 Question Id : 99836718482 Question Type : MCQ Option Shuffling : Yes Display Question Number : Yes
Single Line Question Option : No Option Orientation : Vertical

Correct Marks : 1 Wrong Marks : 0.25

निम्नलिखित प्रश्न में, चार विकल्पों में से, उस विकल्प का चयन करें जो दिए गए शब्द का स्त्रीलिंग शब्द वाला विकल्प है

आयुष्मान

Options :

1. ✘ आयुष्मत्री
2. ✔ आयुष्मती
3. ✘ आयुष्मानी
4. ✘ आयुष्मात्री

Question Number : 177 Question Id : 99836718482 Question Type : MCQ Option Shuffling : Yes Display Question Number : Yes
Single Line Question Option : No Option Orientation : Vertical

Correct Marks : 1 Wrong Marks : 0.25

निम्नलिखित प्रश्न में, चार विकल्पों में से, उस विकल्प का चयन करें जो दिए गए शब्द का स्त्रीलिंग शब्द वाला विकल्प है

आयुष्मान

Options :

1. ✘ आयुष्मत्री
2. ✔ आयुष्मती
3. ✘ आयुष्मानी
4. ✘ आयुष्मात्री

Question Number : 178 Question Id : 99836718483 Question Type : MCQ Option Shuffling : Yes Display Question Number : Yes
Single Line Question Option : No Option Orientation : Vertical

Correct Marks : 1 Wrong Marks : 0.25

निम्नलिखित प्रश्न में, चार विकल्पों में से, उस विकल्प का चयन करें जो सदा एकवचन शब्द का सबसे अच्छा विकल्प है

Options :

1. ✓ धन
2. ✗ लोग
3. ✗ होश
4. ✗ रातें

Question Number : 178 Question Id : 99836718483 Question Type : MCQ Option Shuffling : Yes Display Question Number : Yes
Single Line Question Option : No Option Orientation : Vertical

Correct Marks : 1 Wrong Marks : 0.25

निम्नलिखित प्रश्न में, चार विकल्पों में से, उस विकल्प का चयन करें जो सदा एकवचन शब्द का सबसे अच्छा विकल्प है।

Options :

1. ✓ धन
2. ✗ लोग
3. ✗ होश
4. ✗ रातें

Question Number : 179 Question Id : 99836718484 Question Type : MCQ Option Shuffling : Yes Display Question Number : Yes
Single Line Question Option : No Option Orientation : Vertical

Correct Marks : 1 Wrong Marks : 0.25

निम्नलिखित प्रश्न में, चार विकल्पों में से, उस विकल्प का चयन करें जो दिए गए शब्द के बहुवचन शब्द का सबसे अच्छा विकल्प है।

कला

Options :

1. ✗ कलें
2. ✓ कलाएँ
3. ✗ कलाओं
4. ✗ कलाये

Question Number : 179 Question Id : 99836718484 Question Type : MCQ Option Shuffling : Yes Display Question Number : Yes
Single Line Question Option : No Option Orientation : Vertical

Correct Marks : 1 Wrong Marks : 0.25

निम्नलिखित प्रश्न में, चार विकल्पों में से, उस विकल्प का चयन करें जो दिए गए शब्द के बहुवचन शब्द का सबसे अच्छा विकल्प है।

कला

Options :

1. ✗ कलें
2. ✓ कलाएँ
3. ✗ कलाओं
4. ✗ कलाये

Question Number : 180 Question Id : 99836718485 Question Type : MCQ Option Shuffling : Yes Display Question Number : Yes
Single Line Question Option : No Option Orientation : Vertical

Correct Marks : 1 Wrong Marks : 0.25

निम्नलिखित प्रश्न में, चार विकल्पों में से, उस विकल्प का चयन करें जो कोष्ठक में दिए गए शब्द के अनुसार उत्तम पुरुषवाचक सर्वनाम का सही विकल्प हो।

Options :

1. ✗ (तुम्हें) कोई भी काम ठीक से करना नहीं आता है।
2. ✗ (वह) मेरा छोटा भाई है ?
3. ✓ (हमें) कुछ देर अकेला छोड़ दो।
4. ✗ (तुम) इतने परेशान क्यों हो ?

Question Number : 180 Question Id : 99836718485 Question Type : MCQ Option Shuffling : Yes Display Question Number : Yes
Single Line Question Option : No Option Orientation : Vertical

Correct Marks : 1 Wrong Marks : 0.25

निम्नलिखित प्रश्न में, चार विकल्पों में से, उस विकल्प का चयन करें जो कोष्ठक में दिए गए शब्द के अनुसार उत्तम पुरुषवाचक सर्वनाम का सही विकल्प हो।

Options :

1. ✘ (तुम्हें) कोई भी काम ठीक से करना नहीं आता है।
2. ✘ (वह) मेरा छोटा भाई है ?
3. ✔ (हमें) कुछ देर अकेला छोड़ दो।
4. ✘ (तुम) इतने परेशान क्यों हो?

General Hindi2

Group Number :	10
Group Id :	998367659
Group Maximum Duration :	0
Group Minimum Duration :	120
Revisit allowed for view? :	No
Revisit allowed for edit? :	No
Break time:	0
Group Marks:	20
Revisit allowed for group Instructions? :	Yes
Maximum Instruction Time:	0
Minimum Instruction Time:	0

General Hindi2

Section Id :	998367780
Section Number :	1
Section type :	Online
Mandatory or Optional:	Mandatory
Number of Questions:	16
Number of Questions to be attempted:	16
Section Marks:	20
Display Number Panel:	Yes
Group All Questions:	No

Sub-Section Number:	1
Sub-Section Id:	998367993
Question Shuffling Allowed :	Yes

Question Number : 181 Question Id : 99836718486 Question Type : MCQ Option Shuffling : Yes Display Question Number : Yes
Single Line Question Option : No Option Orientation : Vertical

Correct Marks : 1 Wrong Marks : 0.25

निम्नलिखित प्रश्न में, चार विकल्पों में से, उस विकल्प का चयन करें जो दिए गए वाक्य के काल के भेद का सही विकल्प हो।

हम सभी बहुत अच्छा गीत गाते थे।

Options :

1. ✘ हेतुहेतु मद् भूतकाल
2. ✘ आसन्न भूतकाल

3. ✘ अपूर्ण भूतकाल

4. ✔ पूर्ण भूतकाल

Question Number : 181 Question Id : 99836718486 Question Type : MCQ Option Shuffling : Yes Display Question Number : Yes
Single Line Question Option : No Option Orientation : Vertical

Correct Marks : 1 Wrong Marks : 0.25

निम्नलिखित प्रश्न में, चार विकल्पों में से, उस विकल्प का चयन करें जो दिए गए वाक्य के काल के भेद का सही विकल्प हो।

हम सभी बहुत अच्छा गीत गाते थे।

Options :

1. ✘ हेतुहेतु मद् भूतकाल

2. ✘ आसन्न भूतकाल

3. ✘ अपूर्ण भूतकाल

4. ✔ पूर्ण भूतकाल

Question Number : 182 Question Id : 99836718487 Question Type : MCQ Option Shuffling : Yes Display Question Number : Yes
Single Line Question Option : No Option Orientation : Vertical

Correct Marks : 1 Wrong Marks : 0.25

निम्नलिखित प्रश्न में, चार विकल्पों में से, उस विकल्प का चयन करें जो दिए गए वाक्य के लिए वृत्ति के भेद का सबसे अच्छा विकल्प है।

अगर भर पेट खाना मिल जायेगा तो मैं खुश हो जाऊंगा।

Options :

1. ✘ विध्यर्थ

2. ✔ संकेतार्थ

3. ✘ संदेहार्थ

4. ✘ निश्चयार्थ

Question Number : 182 Question Id : 99836718487 Question Type : MCQ Option Shuffling : Yes Display Question Number : Yes
Single Line Question Option : No Option Orientation : Vertical

Correct Marks : 1 Wrong Marks : 0.25

निम्नलिखित प्रश्न में, चार विकल्पों में से, उस विकल्प का चयन करें जो दिए गए वाक्य के लिए वृत्ति के भेद का सबसे अच्छा विकल्प है।

अगर भर पेट खाना मिल जायेगा तो मैं खुश हो जाऊंगा।

Options :

1. ✘ विध्यर्थ

2. ✔ संकेतार्थ

3. ✘ संदेहार्थ

4. ✘ निश्चयार्थ

Question Number : 183 Question Id : 99836718488 Question Type : MCQ Option Shuffling : Yes Display Question Number : Yes
Single Line Question Option : No Option Orientation : Vertical

Correct Marks : 1 Wrong Marks : 0.25

निम्नलिखित प्रश्न में, चार विकल्पों में से, उस विकल्प का चयन करें जो दिए गए वाक्य के लिए पक्ष के भेद का सबसे अच्छा विकल्प है।

पृथ्वी सूर्य के चक्कर लगाती है।

Options :

1. ✘ सातप्यबोधक

2. ✔ नित्यताद्योतक

3. ✘ प्रगतिद्योतक

4. ✘ आरंभद्योतक

Question Number : 183 Question Id : 99836718488 Question Type : MCQ Option Shuffling : Yes Display Question Number : Yes
Single Line Question Option : No Option Orientation : Vertical

Correct Marks : 1 Wrong Marks : 0.25

निम्नलिखित प्रश्न में, चार विकल्पों में से, उस विकल्प का चयन करें जो दिए गए वाक्य के लिए पक्ष के भेद का सबसे अच्छा विकल्प है।

पृथ्वी सूर्य के चक्कर लगाती है।

Options :

1. ✘ सातप्यबोधक
2. ✔ नित्यताद्योतक
3. ✘ प्रगतिद्योतक
4. ✘ आरंभद्योतक

Question Number : 184 Question Id : 99836718489 Question Type : MCQ Option Shuffling : Yes Display Question Number : Yes
Single Line Question Option : No Option Orientation : Vertical

Correct Marks : 1 Wrong Marks : 0.25

निम्न विकल्पों में से निर्देशानुसार वाच्य परिवर्तन का विकल्प चुनिए।

हम खिलौना बना रहे हैं (कर्मवाच्य)

Options :

1. ✔ खिलौना हमारे द्वारा बनाया गया
2. ✘ खिलौना हमने बनाया
3. ✘ हमने खिलौना बनाया
4. ✘ खिलौना हम बनाते हैं

Question Number : 184 Question Id : 99836718489 Question Type : MCQ Option Shuffling : Yes Display Question Number : Yes
Single Line Question Option : No Option Orientation : Vertical

Correct Marks : 1 Wrong Marks : 0.25

निम्न विकल्पों में से निर्देशानुसार वाच्य परिवर्तन का विकल्प चुनिए।

हम खिलौना बना रहे हैं (कर्मवाच्य)

Options :

1. ✔ खिलौना हमारे द्वारा बनाया गया
2. ✘ खिलौना हमने बनाया
3. ✘ हमने खिलौना बनाया
4. ✘ खिलौना हम बनाते हैं

Question Number : 185 Question Id : 99836718490 Question Type : MCQ Option Shuffling : Yes Display Question Number : Yes
Single Line Question Option : No Option Orientation : Vertical

Correct Marks : 1 Wrong Marks : 0.25

निम्नलिखित प्रश्न में, चार विकल्पों में से, उस विकल्प का चयन करें जो सही वाक्य भेद का विकल्प हो।

मुझे कल दोस्त के घर जाना है।

Options :

1. ✘ मिश्र वाक्य
2. ✘ संयुक्त वाक्य
3. ✘ निषेधवाचक वाक्य
4. ✔ सरल वाक्य

Question Number : 185 Question Id : 99836718490 Question Type : MCQ Option Shuffling : Yes Display Question Number : Yes
Single Line Question Option : No Option Orientation : Vertical

Correct Marks : 1 Wrong Marks : 0.25

निम्नलिखित प्रश्न में, चार विकल्पों में से, उस विकल्प का चयन करें जो सही वाक्य भेद का विकल्प हो

मुझे कल दोस्त के घर जाना है।

Options :

1. ✘ मिश्र वाक्य
2. ✘ संयुक्त वाक्य
3. ✘ निषेधवाचक वाक्य
4. ✔ सरल वाक्य

Question Number : 186 Question Id : 99836718491 Question Type : MCQ Option Shuffling : Yes Display Question Number : Yes
Single Line Question Option : No Option Orientation : Vertical

Correct Marks : 1 Wrong Marks : 0.25

निम्नलिखित प्रश्न में, चार विकल्पों में से, उस विकल्प का चयन करें जो सही वाक्य भेद का विकल्प हो

मेहमान घर पर आए और जल्द ही चले गए।

Options :

1. ✔ संयुक्त वाक्य
2. ✘ मिश्र वाक्य
3. ✘ संदेहवाचक वाक्य
4. ✘ संकेतवाचक वाक्य

Question Number : 186 Question Id : 99836718491 Question Type : MCQ Option Shuffling : Yes Display Question Number : Yes
Single Line Question Option : No Option Orientation : Vertical

Correct Marks : 1 Wrong Marks : 0.25

निम्नलिखित प्रश्न में, चार विकल्पों में से, उस विकल्प का चयन करें जो सही वाक्य भेद का विकल्प हो

मेहमान घर पर आए और जल्द ही चले गए।

Options :

1. ✔ संयुक्त वाक्य
2. ✘ मिश्र वाक्य
3. ✘ संदेहवाचक वाक्य
4. ✘ संकेतवाचक वाक्य

Question Number : 187 Question Id : 99836718492 Question Type : MCQ Option Shuffling : Yes Display Question Number : Yes
Single Line Question Option : No Option Orientation : Vertical

Correct Marks : 1 Wrong Marks : 0.25

निम्नलिखित प्रश्न में, चार विकल्पों में से, उस विकल्प का चयन करें जो सही वाक्य भेद का विकल्प हो

जब सब आएँगे, तब हम भी चलेंगे।

Options :

1. ✘ विधानवाचक वाक्य
2. ✘ सरल वाक्य
3. ✔ मिश्र वाक्य
4. ✘ संयुक्त वाक्य

Question Number : 187 Question Id : 99836718492 Question Type : MCQ Option Shuffling : Yes Display Question Number : Yes
Single Line Question Option : No Option Orientation : Vertical

Correct Marks : 1 Wrong Marks : 0.25

निम्नलिखित प्रश्न में, चार विकल्पों में से, उस विकल्प का चयन करें जो सही वाक्य भेद का विकल्प हो

जब सब आएँगे, तब हम भी चलेंगे

Options :

1. ✘ विधानवाचक वाक्य
2. ✘ सरल वाक्य
3. ✔ मिश्र वाक्य
4. ✘ संयुक्त वाक्य

Question Number : 188 Question Id : 99836718493 Question Type : MCQ Option Shuffling : Yes Display Question Number : Yes
Single Line Question Option : No Option Orientation : Vertical

Correct Marks : 1 Wrong Marks : 0.25

निम्नलिखित प्रश्न में, चार विकल्पों में से, उस विकल्प का चयन करें जो विराम चिह्न युक्त वाक्य का सही विकल्प हो

Options :

1. ✔ नेहरू जी ने कहा था, "आराम हराम है"
2. ✘ नेहरू जी ने कहा था आराम हराम है
3. ✘ नेहरू जी ने कहा था- आराम हराम है
4. ✘ नेहरू जी ने कहा था; आराम हराम है

Question Number : 188 Question Id : 99836718493 Question Type : MCQ Option Shuffling : Yes Display Question Number : Yes
Single Line Question Option : No Option Orientation : Vertical

Correct Marks : 1 Wrong Marks : 0.25

निम्नलिखित प्रश्न में, चार विकल्पों में से, उस विकल्प का चयन करें जो विराम चिह्न युक्त वाक्य का सही विकल्प हो

Options :

1. ✔ नेहरू जी ने कहा था, "आराम हराम है"
2. ✘ नेहरू जी ने कहा था आराम हराम है
3. ✘ नेहरू जी ने कहा था- आराम हराम है
4. ✘ नेहरू जी ने कहा था; आराम हराम है

Question Number : 189 Question Id : 99836718494 Question Type : MCQ Option Shuffling : Yes Display Question Number : Yes
Single Line Question Option : No Option Orientation : Vertical

Correct Marks : 1 Wrong Marks : 0.25

निम्नलिखित प्रश्न में, चार विकल्पों में से, उस विकल्प का चयन करें जो विराम चिह्न युक्त वाक्य का सही विकल्प हो

Options :

1. ✘ वाह, तुमने तो कमाल ही कर दिया
2. ✔ वाह! तुमने तो कमाल ही कर दिया
3. ✘ वाह- तुमने तो कमाल ही कर दिया
4. ✘ वाह! "तुमने तो कमाल ही कर दिया "

Question Number : 189 Question Id : 99836718494 Question Type : MCQ Option Shuffling : Yes Display Question Number : Yes
Single Line Question Option : No Option Orientation : Vertical

Correct Marks : 1 Wrong Marks : 0.25

निम्नलिखित प्रश्न में, चार विकल्पों में से, उस विकल्प का चयन करें जो विराम चिह्न युक्त वाक्य का सही विकल्प हो

Options :

1. ✘ वाह, तुमने तो कमाल ही कर दिया
2. ✔ वाह! तुमने तो कमाल ही कर दिया
3. ✘ वाह- तुमने तो कमाल ही कर दिया
4. ✘ वाह! "तुमने तो कमाल ही कर दिया "

Question Number : 190 Question Id : 99836718495 Question Type : MCQ Option Shuffling : Yes Display Question Number : Yes
Single Line Question Option : No Option Orientation : Vertical

Correct Marks : 1 Wrong Marks : 0.25

निम्नलिखित प्रश्न में, चार विकल्पों में से, उस विकल्प का चयन करें जो दिए गए मुहावरे के लिए सही अर्थ वाला विकल्प है।

दो दिन का मेहमान

Options :

1. ✘ दो दिन के लिए मेहमान घर आना
2. ✘ शांति भंग करना
3. ✔ मृत्यु के निकट होना
4. ✘ अवसरवादी होना

Question Number : 190 Question Id : 99836718495 Question Type : MCQ Option Shuffling : Yes Display Question Number : Yes
Single Line Question Option : No Option Orientation : Vertical

Correct Marks : 1 Wrong Marks : 0.25

निम्नलिखित प्रश्न में, चार विकल्पों में से, उस विकल्प का चयन करें जो दिए गए मुहावरे के लिए सही अर्थ वाला विकल्प है।

दो दिन का मेहमान

Options :

1. ✘ दो दिन के लिए मेहमान घर आना
2. ✘ शांति भंग करना
3. ✔ मृत्यु के निकट होना
4. ✘ अवसरवादी होना

Question Number : 191 Question Id : 99836718496 Question Type : MCQ Option Shuffling : Yes Display Question Number : Yes
Single Line Question Option : No Option Orientation : Vertical

Correct Marks : 1 Wrong Marks : 0.25

निम्नलिखित प्रश्न में, चार विकल्पों में से, उस विकल्प का चयन करें जो दिए गए मुहावरे के लिए सही अर्थ वाला विकल्प है।

पत्थर की लकीर

Options :

1. ✘ कठोर व्यक्ति
2. ✘ रेखा खींचना
3. ✔ दृढ़ निश्चय
4. ✘ निडर व्यक्ति

Question Number : 191 Question Id : 99836718496 Question Type : MCQ Option Shuffling : Yes Display Question Number : Yes
Single Line Question Option : No Option Orientation : Vertical

Correct Marks : 1 Wrong Marks : 0.25

निम्नलिखित प्रश्न में, चार विकल्पों में से, उस विकल्प का चयन करें जो दिए गए मुहावरे के लिए सही अर्थ वाला विकल्प है।

पत्थर की लकीर

Options :

1. ✘ कठोर व्यक्ति
2. ✘ रेखा खींचना
3. ✔ दृढ़ निश्चय
4. ✘ निडर व्यक्ति

Question Number : 192 Question Id : 99836718497 Question Type : MCQ Option Shuffling : Yes Display Question Number : Yes
Single Line Question Option : No Option Orientation : Vertical

Correct Marks : 1 Wrong Marks : 0.25

निम्नलिखित प्रश्न में, चार विकल्पों में से, उस विकल्प का चयन करें जो दिए गए मुहावरे के लिए सही अर्थ वाला विकल्प है

पेट में दाढ़ी होना

Options :

1. ✓ कम उम्र में अधिक जानकारी
2. ✗ तबीयत खराब होना
3. ✗ चालाक व्यक्ति
4. ✗ कठिन काम

Question Number : 192 Question Id : 99836718497 Question Type : MCQ Option Shuffling : Yes Display Question Number : Yes
Single Line Question Option : No Option Orientation : Vertical

Correct Marks : 1 Wrong Marks : 0.25

निम्नलिखित प्रश्न में, चार विकल्पों में से, उस विकल्प का चयन करें जो दिए गए मुहावरे के लिए सही अर्थ वाला विकल्प है

पेट में दाढ़ी होना

Options :

1. ✓ कम उम्र में अधिक जानकारी
2. ✗ तबीयत खराब होना
3. ✗ चालाक व्यक्ति
4. ✗ कठिन काम

Question Number : 193 Question Id : 99836718498 Question Type : MCQ Option Shuffling : Yes Display Question Number : Yes
Single Line Question Option : No Option Orientation : Vertical

Correct Marks : 1 Wrong Marks : 0.25

निम्नलिखित प्रश्न में, चार विकल्पों में से, उस विकल्प का चयन करें जो दी गई लोकोक्ति के लिए सही अर्थ वाला विकल्प है

नीम हकीम खतरे जान

Options :

1. ✗ दूसरों के लिए अपनी जान खतरे में डालना
2. ✗ वैध के पास जाना
3. ✗ जान बचाना
4. ✓ कम ज्ञान घातक सिद्ध होता है

Question Number : 193 Question Id : 99836718498 Question Type : MCQ Option Shuffling : Yes Display Question Number : Yes
Single Line Question Option : No Option Orientation : Vertical

Correct Marks : 1 Wrong Marks : 0.25

निम्नलिखित प्रश्न में, चार विकल्पों में से, उस विकल्प का चयन करें जो दी गई लोकोक्ति के लिए सही अर्थ वाला विकल्प है

नीम हकीम खतरे जान

Options :

1. ✗ दूसरों के लिए अपनी जान खतरे में डालना
2. ✗ वैध के पास जाना
3. ✗ जान बचाना
4. ✓ कम ज्ञान घातक सिद्ध होता है

Question Number : 194 Question Id : 99836718499 Question Type : MCQ Option Shuffling : Yes Display Question Number : Yes
Single Line Question Option : No Option Orientation : Vertical

Correct Marks : 1 Wrong Marks : 0.25

निम्नलिखित प्रश्न में, चार विकल्पों में से, उस विकल्प का चयन करें जो दी गई लोकोक्ति के लिए सही अर्थ वाला विकल्प है।

एक पंथ दो काज

Options :

1. ✓ एक काम से दूसरा काम हो जाना
2. ✗ सामान एक लेने वाले दो
3. ✗ एक रास्ता सवारी दो
4. ✗ मुश्किल काम

Question Number : 194 Question Id : 99836718499 Question Type : MCQ Option Shuffling : Yes Display Question Number : Yes
Single Line Question Option : No Option Orientation : Vertical

Correct Marks : 1 Wrong Marks : 0.25

निम्नलिखित प्रश्न में, चार विकल्पों में से, उस विकल्प का चयन करें जो दी गई लोकोक्ति के लिए सही अर्थ वाला विकल्प है।

एक पंथ दो काज

Options :

1. ✓ एक काम से दूसरा काम हो जाना
2. ✗ सामान एक लेने वाले दो
3. ✗ एक रास्ता सवारी दो
4. ✗ मुश्किल काम

Question Number : 195 Question Id : 99836718500 Question Type : MCQ Option Shuffling : Yes Display Question Number : Yes
Single Line Question Option : No Option Orientation : Vertical

Correct Marks : 1 Wrong Marks : 0.25

निम्नलिखित प्रश्न में, चार विकल्पों में से, उस सही विकल्प का चयन करें जो दी गई लोकोक्ति के लिए सही अर्थ वाला विकल्प है।

हींग लगे न फिटकरी रंग भी चोखा

Options :

1. ✗ सुन्दर दिखना
2. ✗ मेहनत से कतराना
3. ✓ बिना खर्च किए अच्छा काम करना
4. ✗ आलसी व्यक्ति

Question Number : 195 Question Id : 99836718500 Question Type : MCQ Option Shuffling : Yes Display Question Number : Yes
Single Line Question Option : No Option Orientation : Vertical

Correct Marks : 1 Wrong Marks : 0.25

निम्नलिखित प्रश्न में, चार विकल्पों में से, उस सही विकल्प का चयन करें जो दी गई लोकोक्ति के लिए सही अर्थ वाला विकल्प है।

हींग लगे न फिटकरी रंग भी चोखा

Options :

1. ✗ सुन्दर दिखना
2. ✗ मेहनत से कतराना
3. ✓ बिना खर्च किए अच्छा काम करना
4. ✗ आलसी व्यक्ति

Sub-Section Number: 2
Sub-Section Id: 998367994
Question Shuffling Allowed : Yes

Question Id : 99836718501 Question Type : COMPREHENSION Sub Question Shuffling Allowed : Yes Group Comprehension Questions : No

Question Numbers : (196 to 200)

Question Label : Comprehension

नीचे दिए गए गद्यांश को ध्यानपूर्वक पढ़ें और दिए गए प्रश्न का सर्वोत्तम उत्तर चुनें

परंपरागत अर्थों में रहस्यवाद आत्मा और परमात्मा के संबंध में रचित काव्य है, पर आज की रहस्यवादी रचनाओं को समग्रतः ऐसा नहीं कहा जा सकता। इस सृष्टि में आकर मनुष्य अपने चारों ओर जो कुछ देखता है, वह एक विचित्र रहस्य में आवृत है। बड़े-बड़े मनीषी भी युगों तक खोज करके इस समस्त विश्व-प्रपंच के रहस्य का उद्घाटन नहीं कर पाए हैं, किंतु दीर्घकाल तक विचार और साधना करने के पश्चात् उन्हें ऐसा अनुभव हुआ कि इस समस्त संसार का संचालन किसी अदृश्य सत्ता द्वारा हो रहा है। उस अदृश्य सत्ता को ब्रह्म या परमात्मा भी कहा जा सकता है। उस अदृश्य सत्ता को खोजने और उससे मिलने के लिए वे साधक बेचैन हो उठे। उस अदृश्य सत्ता उस ब्रह्म या अज्ञात सत्ता के प्रेम में वे पागल हो उठे हैं, उसके गुणों का रूप का कुछ वर्णन कर पाना संभव नहीं है। सभी साधकों ने एक स्वर से यही बात कही है कि वह बुद्धि और विवेक या तर्क से परे है, उसे इन्द्रियों द्वारा जाना नहीं जा सकता। हृदय द्वारा उसका अनुभव किया जा सकता है, परंतु वह अनुभव गूँगे के गुड़ के समान है। उस अनुभव का आनंद तो लिया जा सकता है, किंतु उसका वाणी से वर्णन नहीं किया जा सकता।

Sub questions

Question Number : 196 Question Id : 99836718502 Question Type : MCQ Option Shuffling : Yes Display Question Number : Yes Single Line Question Option : No Option Orientation : Vertical

Correct Marks : 1 Wrong Marks : 0.25

रहस्यवाद क्या है?

Options :

- ✘ आत्मा और परमात्मा के रहस्य से जुदा हुआ
- ✘ आत्मा और परमात्मा से सम्बंधित काव्य
- ✔ आत्मा और परमात्मा जगत
- ✘ आत्मा और परमात्मा जगत से परे काव्य

Question Number : 197 Question Id : 99836718503 Question Type : MCQ Option Shuffling : Yes Display Question Number : Yes Single Line Question Option : No Option Orientation : Vertical

Correct Marks : 1 Wrong Marks : 0.25

अदृश्य सत्ता से मिलने के लिए साधक बेचैन क्यों हैं?

Options :

- ✘ वे उस सत्ता के वश में हो गए हैं
- ✔ अदृश्य सत्ता उन पर हावी हो गई है
- ✘ वे उस सत्ता के वश में पागल हो गए हैं
- ✘ वे उस अदृश्य सत्ता के बिना जी नहीं सकते

Question Number : 198 Question Id : 99836718504 Question Type : MCQ Option Shuffling : Yes Display Question Number : Yes Single Line Question Option : No Option Orientation : Vertical

Correct Marks : 1 Wrong Marks : 0.25

ब्रह्म का वर्णन करने में कठिनाई क्या है?

Options :

- ✘ वह बुद्धि और तर्क से परे है
- ✘ उसे इन्द्रियों द्वारा जाना नहीं जा सकता
- ✔ उसका वाणी से वर्णन नहीं किया जा सकता
- ✘ उपरोक्त सभी विकल्प सही हैं

Question Number : 199 Question Id : 99836718505 Question Type : MCQ Option Shuffling : Yes Display Question Number : Yes Single Line Question Option : No Option Orientation : Vertical

Correct Marks : 1 Wrong Marks : 0.25

इनमें से कौन - सा विवेक शब्द का सही अर्थ है?

Options :

1. ✘ सब-कुछ पता होना
2. ✘ किसी को निर्णय देना
3. ✔ सही-गलत का निर्णय कर सकने की क्षमता
4. ✘ सही-गलत का निर्णय न ले पाना

Question Number : 200 Question Id : 99836718506 Question Type : MCQ Option Shuffling : Yes Display Question Number : Yes Single Line Question Option : No Option Orientation : Vertical

Correct Marks : 1 Wrong Marks : 0.25

इस अनुच्छेद का कोई उपयुक्त शीर्षक-

Options :

1. ✘ रहस्यवाद का अर्थ
2. ✔ संसार का संचालन
3. ✘ अदृश्य आत्मा
4. ✘ परमात्मा

Question Id : 99836718501 Question Type : COMPREHENSION Sub Question Shuffling Allowed : Yes Group Comprehension Questions : No

Question Numbers : (196 to 200)

Question Label : Comprehension

नीचे दिए गए गद्यांश को ध्यानपूर्वक पढ़ें और दिए गए प्रश्न का सर्वोत्तम उत्तर चुनें

परंपरागत अर्थों में रहस्यवाद आत्मा और परमात्मा के संबंध में रचित काव्य है, पर आज की रहस्यवादी रचनाओं को समग्रतः ऐसा नहीं कहा जा सकता। इस सृष्टि में आकर मनुष्य अपने चारों ओर जो कुछ देखता है, वह एक विचित्र रहस्य में आवृत है। बड़े-बड़े मनीषी भी युगों तक खोज करके इस समस्त विश्व-प्रपंच के रहस्य का उद्घाटन नहीं कर पाए हैं, किंतु दीर्घकाल तक विचार और साधना करने के पश्चात् उन्हें ऐसा अनुभव हुआ कि इस समस्त संसार का संचालन किसी अदृश्य सत्ता द्वारा हो रहा है। उस अदृश्य सत्ता को ब्रह्म या परमात्मा भी कहा जा सकता है। उस अदृश्य सत्ता को खोजने और उससे मिलने के लिए वे साधक बेचैन हो उठे। उस अदृश्य सत्ता उस ब्रह्म या अज्ञात सत्ता के प्रेम में वे पागल हो उठे हैं, उसके गुणों का रूप का कुछ वर्णन कर पाना संभव नहीं है। सभी साधकों ने एक स्वर से यही बात कही है कि वह बुद्धि और विवेक या तर्क से परे है, उसे इंद्रियों द्वारा जाना नहीं जा सकता। हृदय द्वारा उसका अनुभव किया जा सकता है, परंतु वह अनुभव गूँगे के गुड़ के समान है। उस अनुभव का आनंद तो लिया जा सकता है, किंतु उसका वाणी से वर्णन नहीं किया जा सकता।

Sub questions

Question Number : 196 Question Id : 99836718502 Question Type : MCQ Option Shuffling : Yes Display Question Number : Yes Single Line Question Option : No Option Orientation : Vertical

Correct Marks : 1 Wrong Marks : 0.25

रहस्यवाद क्या है?

Options :

1. ✘ आत्मा और परमात्मा के रहस्य से जुदा हुआ
2. ✘ आत्मा और परमात्मा से सम्बंधित काव्य
3. ✔ आत्मा और परमात्मा जगत
4. ✘ आत्मा और परमात्मा जगत से परे काव्य

Question Number : 197 Question Id : 99836718503 Question Type : MCQ Option Shuffling : Yes Display Question Number : Yes Single Line Question Option : No Option Orientation : Vertical

Correct Marks : 1 Wrong Marks : 0.25

अदृश्य सत्ता से मिलने के लिए साधक बेचैन क्यों हैं?

Options :

1. ✘ वे उस सत्ता के वश में हो गए हैं
2. ✔ अदृश्य सत्ता उन पर हावी हो गई है
3. ✘ वे उस सत्ता के वश में पागल हो गए हैं
4. ✘ वे उस अदृश्य सत्ता के बिना जी नहीं सकते

Question Number : 198 Question Id : 99836718504 Question Type : MCQ Option Shuffling : Yes Display Question Number : Yes
Single Line Question Option : No Option Orientation : Vertical

Correct Marks : 1 Wrong Marks : 0.25

ब्रह्म का वर्णन करने में कठिनाई क्या है?

Options :

1. ✘ वह बुद्धि और तर्क से परे है
2. ✘ उसे इन्द्रियों द्वारा जाना नहीं जा सकता
3. ✔ उसका वाणी से वर्णन नहीं किया जा सकता
4. ✘ उपरोक्त सभी विकल्प सही है

Question Number : 199 Question Id : 99836718505 Question Type : MCQ Option Shuffling : Yes Display Question Number : Yes
Single Line Question Option : No Option Orientation : Vertical

Correct Marks : 1 Wrong Marks : 0.25

इनमें से कौन - सा विवेक शब्द का सही अर्थ है?

Options :

1. ✘ सब-कुछ पता होना
2. ✘ किसी को निर्णय देना
3. ✔ सही-गलत का निर्णय कर सकने की क्षमता
4. ✘ सही-गलत का निर्णय न ले पाना

Question Number : 200 Question Id : 99836718506 Question Type : MCQ Option Shuffling : Yes Display Question Number : Yes
Single Line Question Option : No Option Orientation : Vertical

Correct Marks : 1 Wrong Marks : 0.25

इस अनुच्छेद का कोई उपयुक्त शीर्षक-

Options :

1. ✘ रहस्यवाद का अर्थ
2. ✔ संसार का संचालन
3. ✘ अदृश्य आत्मा
4. ✘ परमात्मा