

Education Consultant India Ltd.

Notations :

- 1.Options shown in green color and with ✓ icon are correct.
- 2.Options shown in red color and with ✘ icon are incorrect.

Question Paper Name:	Nursing Officer 27th August 2019 S3
Subject Name:	Nursing Officer
Creation Date:	2019-08-28 09:47:52
Duration:	120
Total Marks:	200
Display Marks:	Yes
Share Answer Key With Delivery Engine:	No
Actual Answer Key:	Yes
Calculator:	None
Magnifying Glass Required?:	No
Ruler Required?:	No
Eraser Required?:	No
Scratch Pad Required?:	No
Rough Sketch/Notepad Required?:	No
Protractor Required?:	No
Show Watermark on Console?:	Yes
Highlighter:	No
Auto Save on Console?:	No

Mental Ability

Group Number :	1
Group Id :	509647372
Group Maximum Duration :	0
Group Minimum Duration :	0
Revisit allowed for view? :	No
Revisit allowed for edit? :	No
Break time:	0
Group Marks:	20
Revisit allowed for group Instructions? :	Yes
Maximum Instruction Time:	0
Minimum Instruction Time:	0

Mental Ability

Section Id :	509647532
Section Number :	1
Section type :	Online
Mandatory or Optional:	Mandatory
Number of Questions:	20
Number of Questions to be attempted:	20
Section Marks:	20

Display Number Panel: Yes
Group All Questions: No

Sub-Section Number: 1
Sub-Section Id: 509647720
Question Shuffling Allowed : Yes

Question Number : 1 Question Id : 50964713463 Question Type : MCQ Option Shuffling : Yes Display Question Number : Yes
Single Line Question Option : No Option Orientation : Vertical

Correct Marks : 1 Wrong Marks : 0.25

Some letters are numbered as 1,2,3,4,5 and 6. In the options, four possible arrangements of these numbers are given. Choose the option so that the letters form a meaningful word.

D E L O B N

1 2 3 4 5 6

Options :

1. ✓ 534612
2. ✗ 341265
3. ✗ 145362
4. ✗ 153462

Question Number : 1 Question Id : 50964713463 Question Type : MCQ Option Shuffling : Yes Display Question Number : Yes
Single Line Question Option : No Option Orientation : Vertical

Correct Marks : 1 Wrong Marks : 0.25

कुछ अक्षरों को 1,2,3,4,5 और 6 क्रमांक दिए गए हैं विकल्पों में, इन संख्याओं की चार संभावित व्यवस्थाएँ दी गई हैं। उस विकल्प का चयन करें ताकि अक्षर एक सार्थक शब्द बन सकें।

D E L O B N

1 2 3 4 5 6

Options :

1. ✓ 534612
2. ✗ 341265
3. ✗ 145362
4. ✗ 153462

Question Number : 2 Question Id : 50964713464 Question Type : MCQ Option Shuffling : Yes Display Question Number : Yes
Single Line Question Option : No Option Orientation : Vertical

Correct Marks : 1 Wrong Marks : 0.25

Out of the given options, three are similar in a certain manner. However, one option is NOT like the other three. Select the option which is different from the rest.

Options :

1. ✗ DHL
2. ✗ PTX
3. ✗ YCG
4. ✓ JMP

Question Number : 2 Question Id : 50964713464 Question Type : MCQ Option Shuffling : Yes Display Question Number : Yes
Single Line Question Option : No Option Orientation : Vertical

Correct Marks : 1 Wrong Marks : 0.25

दिए गए विकल्पों में से, तीन एक निश्चित तरीके से समान हैं। हालाँकि, एक विकल्प अन्य तीन की तरह नहीं है। उस विकल्प का चयन करें जो बाकी से अलग है।

Options :

- ✘ DHL
- ✘ PTX
- ✘ YCG
- ✔ JMP

Question Number : 3 Question Id : 50964713465 Question Type : MCQ Option Shuffling : Yes Display Question Number : Yes
Single Line Question Option : No Option Orientation : Vertical

Correct Marks : 1 Wrong Marks : 0.25

Out of the given options, three are similar in a certain manner. However, one option is NOT like the other three. Select the option which is different from the rest.

Options :

- ✘ Bull
- ✘ Wolverine
- ✘ Stallion
- ✔ Hen

Question Number : 3 Question Id : 50964713465 Question Type : MCQ Option Shuffling : Yes Display Question Number : Yes
Single Line Question Option : No Option Orientation : Vertical

Correct Marks : 1 Wrong Marks : 0.25

दिए गए विकल्पों में से, तीन एक निश्चित तरीके से समान हैं। हालाँकि, एक विकल्प अन्य तीन की तरह नहीं है। उस विकल्प का चयन करें जो बाकी से अलग है।

Options :

- ✘ सांड
- ✘ वूल्वरिन
- ✘ घोड़ा
- ✔ मुर्गी

Question Number : 4 Question Id : 50964713466 Question Type : MCQ Option Shuffling : Yes Display Question Number : Yes
Single Line Question Option : No Option Orientation : Vertical

Correct Marks : 1 Wrong Marks : 0.25

Select the option that is related to the third term on the same basis as the second term is related to the first term.

BGL : FKP :: RWB : ?

Options :

- ✘ XCG
- ✔ VAF
- ✘ YBK
- ✘ ZAH

Question Number : 4 Question Id : 50964713466 Question Type : MCQ Option Shuffling : Yes Display Question Number : Yes
Single Line Question Option : No Option Orientation : Vertical

Correct Marks : 1 Wrong Marks : 0.25

उस विकल्प का चयन करें जो तीसरे पद से उसी प्रकार से संबंधित है जिस प्रकार से पहला पद दूसरे पद से संबंधित है।

BGL : FKP :: RWB : ?

Options :

1. ✘ XCG
2. ✔ VAF
3. ✘ YBK
4. ✘ ZAH

Question Number : 5 Question Id : 50964713467 Question Type : MCQ Option Shuffling : Yes Display Question Number : Yes
Single Line Question Option : No Option Orientation : Vertical

Correct Marks : 1 Wrong Marks : 0.25

In a certain code language, SUNLIGHT = 64, FLOWER = 36, then what is SUNFLOWER coded as?

Options :

1. ✔ 81
2. ✘ 100
3. ✘ 49
4. ✘ 72

Question Number : 5 Question Id : 50964713467 Question Type : MCQ Option Shuffling : Yes Display Question Number : Yes
Single Line Question Option : No Option Orientation : Vertical

Correct Marks : 1 Wrong Marks : 0.25

एक निश्चित कोड भाषा में, SUNLIGHT = 64, FLOWER = 36, तो SUNFLOWER का क्या कोड है?

Options :

1. ✔ 81
2. ✘ 100
3. ✘ 49
4. ✘ 72

Question Number : 6 Question Id : 50964713468 Question Type : MCQ Option Shuffling : Yes Display Question Number : Yes
Single Line Question Option : No Option Orientation : Vertical

Correct Marks : 1 Wrong Marks : 0.25

In a certain code language 513687 is coded as 604596, then what will 753621 be coded as?

Options :

1. ✘ 844710
2. ✔ 844530
3. ✘ 664732
4. ✘ 662712

Question Number : 6 Question Id : 50964713468 Question Type : MCQ Option Shuffling : Yes Display Question Number : Yes
Single Line Question Option : No Option Orientation : Vertical

Correct Marks : 1 Wrong Marks : 0.25

एक निश्चित कोड भाषा में, 513687 को 604596 के रूप में कोडित किया गया है, तो 753621 को किस प्रकार कोडित किया जाएगा?

Options :

1. ✘ 844710
2. ✔ 844530
3. ✘ 664732
4. ✘ 662712

Question Number : 7 Question Id : 50964713469 Question Type : MCQ Option Shuffling : Yes Display Question Number : Yes
Single Line Question Option : No Option Orientation : Vertical

Correct Marks : 1 Wrong Marks : 0.25

Harshita, Ishika, Jaya, Krishna and Lara are sitting on a bench. Jaya is between Ishika and Lara. Harshita is to the right of Ishika. Kalyani is sitting at the extreme right. Kalyani is not next to Lara. Who is to the right of Harshita?

Options :

- ✘ Lara
- ✘ Ishika
- ✔ Kalyani
- ✘ Jaya

Question Number : 7 Question Id : 50964713469 Question Type : MCQ Option Shuffling : Yes Display Question Number : Yes
Single Line Question Option : No Option Orientation : Vertical

Correct Marks : 1 Wrong Marks : 0.25

हर्षिता, इशिका, जया, कृष्णा और लारा एक बेंच पर बैठी हैं। जया, इशिका और लारा के बीच में है। हर्षिता, इशिका के दाहिनी तरफ है। कल्याणी एकदम दाहिनी ओर बैठी है। कल्याणी, लारा के बगल में नहीं है। हर्षिता के दाहिनी तरफ कौन है?

Options :

- ✘ लारा
- ✘ इशिका
- ✔ कल्याणी
- ✘ जया

Question Number : 8 Question Id : 50964713470 Question Type : MCQ Option Shuffling : Yes Display Question Number : Yes
Single Line Question Option : No Option Orientation : Vertical

Correct Marks : 1 Wrong Marks : 0.25

Read the given statement and conclusions carefully. Assuming that the information in the statement is true, even if they appear to be in variance with commonly known facts, select which of the conclusions logically follow(s) from the statement beyond reasonable doubt.

Statements:-

- I. Some dogs are cats.
- II. All cats are birds.

Conclusions:-

- I. Some dogs are birds.
- II. No cat is dog.

Options :

- ✔ Only Conclusion I follows.
- ✘ Only Conclusion II follows.
- ✘ Neither of the conclusion follows.
- ✘ Both I and II follows

Question Number : 8 Question Id : 50964713470 Question Type : MCQ Option Shuffling : Yes Display Question Number : Yes
Single Line Question Option : No Option Orientation : Vertical

Correct Marks : 1 Wrong Marks : 0.25

दिए गए कथन और निष्कर्षों को ध्यान से पढ़ें। यह मानते हुए कि कथन में दी गई जानकारी सत्य है, भले ही वे सामान्यतः ज्ञात तथ्यों के साथ विचरण करते हुए दिखाई देते हों, उस निष्कर्ष का चयन करें जो उचित संदेह से परे उस कथन का तार्किक रूप से अनुसरण करें।

कथन:-

- I. कुछ कुत्ते बिल्लियाँ हैं।
- II. सभी बिल्लियाँ पक्षी हैं।

निष्कर्ष:-

- I. कुछ कुत्ते पक्षी हैं।
- II. कोई बिल्ली कुत्ते नहीं है।

Options :

- ✓ केवल निष्कर्ष I अनुसरण करता है
- ✗ केवल निष्कर्ष II अनुसरण करता है
- ✗ कोई भी निष्कर्ष अनुसरण नहीं करता
- ✗ I और II दोनों अनुसरण करते हैं

Question Number : 9 Question Id : 50964713471 Question Type : MCQ Option Shuffling : Yes Display Question Number : Yes
Single Line Question Option : No Option Orientation : Vertical

Correct Marks : 1 Wrong Marks : 0.25

Out of the given options, three are similar in a certain manner. However, one option is NOT like the other three. Select the option which is different from the rest.

Options :

- ✗ 163
- ✓ 171
- ✗ 167
- ✗ 173

Question Number : 9 Question Id : 50964713471 Question Type : MCQ Option Shuffling : Yes Display Question Number : Yes
Single Line Question Option : No Option Orientation : Vertical

Correct Marks : 1 Wrong Marks : 0.25

दिए गए विकल्पों में से, तीन एक निश्चित तरीके से समान हैं हालाँकि, एक विकल्प अन्य तीन की तरह नहीं है उस विकल्प का चयन करें जो बाकी से अलग है

Options :

- ✗ 163
- ✓ 171
- ✗ 167
- ✗ 173

Question Number : 10 Question Id : 50964713472 Question Type : MCQ Option Shuffling : Yes Display Question Number : Yes
Single Line Question Option : No Option Orientation : Vertical

Correct Marks : 1 Wrong Marks : 0.25

Select the option that is related to the third number on the same basis as the second number is related to the first number.

0.13 : 0.0169 :: 0.09 : ?

Options :

- ✗ 0.081
- ✓ 0.0081
- ✗ 0.81
- ✗ 0.00081

Question Number : 10 Question Id : 50964713472 Question Type : MCQ Option Shuffling : Yes Display Question Number : Yes
Single Line Question Option : No Option Orientation : Vertical

Correct Marks : 1 Wrong Marks : 0.25

उस विकल्प का चयन करें जो तीसरी संख्या से उसी प्रकार से संबंधित है जिस प्रकार से दूसरी संख्या पहली संख्या से संबंधित है

0.13 : 0.0169 :: 0.09 : ?

Options :

- ✗ 0.081
- ✓ 0.0081

3. ✘ 0.81
4. ✘ 0.00081

Question Number : 11 Question Id : 50964713473 Question Type : MCQ Option Shuffling : Yes Display Question Number : Yes
Single Line Question Option : No Option Orientation : Vertical

Correct Marks : 1 Wrong Marks : 0.25

Which two signs should be interchanged to make the below equation mathematically correct?

$$12 \times 8 - 4 + 10 \div 5 = 29$$

Options :

1. ✔ -, ÷
2. ✘ +, -
3. ✘ +, ÷
4. ✘ ÷, +

Question Number : 11 Question Id : 50964713473 Question Type : MCQ Option Shuffling : Yes Display Question Number : Yes
Single Line Question Option : No Option Orientation : Vertical

Correct Marks : 1 Wrong Marks : 0.25

नीचे दिए गए समीकरण को गणितीय रूप से सही बनाने के लिए किन दो चिन्हों को परस्पर स्थानांतरित करना चाहिए?

$$12 \times 8 - 4 + 10 \div 5 = 29$$

Options :

1. ✔ -, ÷
2. ✘ +, -
3. ✘ +, ÷
4. ✘ ÷, +

Question Number : 12 Question Id : 50964713474 Question Type : MCQ Option Shuffling : Yes Display Question Number : Yes
Single Line Question Option : No Option Orientation : Vertical

Correct Marks : 1 Wrong Marks : 0.25

Which two numbers should be interchanged to make the below equation mathematically correct?

$$6 \times 2 + 8 \div 4 - 5 = 6$$

Options :

1. ✔ 6, 5
2. ✘ 2, 4
3. ✘ 5, 4
4. ✘ 8, 5

Question Number : 12 Question Id : 50964713474 Question Type : MCQ Option Shuffling : Yes Display Question Number : Yes
Single Line Question Option : No Option Orientation : Vertical

Correct Marks : 1 Wrong Marks : 0.25

नीचे दिए गए समीकरण को गणितीय रूप से सही बनाने के लिए किन दो संख्याओं को स्थानांतरित किया जाना चाहिए?

$$6 \times 2 + 8 \div 4 - 5 = 6$$

Options :

1. ✔ 6, 5
2. ✘ 2, 4
3. ✘ 5, 4
4. ✘ 8, 5

Question Number : 13 Question Id : 50964713475 Question Type : MCQ Option Shuffling : Yes Display Question Number : Yes
Single Line Question Option : No Option Orientation : Vertical

Correct Marks : 1 Wrong Marks : 0.25

Find the missing number in the following number series.

17, 12, 6, -1, -----

Options :

1. ✓ -9
2. ✗ -7
3. ✗ -6
4. ✗ -8

Question Number : 13 Question Id : 50964713475 Question Type : MCQ Option Shuffling : Yes Display Question Number : Yes
Single Line Question Option : No Option Orientation : Vertical

Correct Marks : 1 Wrong Marks : 0.25

निम्नलिखित संख्या श्रेणी में लुप्त संख्या ज्ञात करें

17, 12, 6, -1, -----

Options :

1. ✓ -9
2. ✗ -7
3. ✗ -6
4. ✗ -8

Question Number : 14 Question Id : 50964713476 Question Type : MCQ Option Shuffling : Yes Display Question Number : Yes
Single Line Question Option : No Option Orientation : Vertical

Correct Marks : 1 Wrong Marks : 0.25

If $15\#3 = 25$, $27\#9 = 15$, $102\#17 = 30$, then what is the value of $152\#19$?

Options :

1. ✓ 40
2. ✗ 45
3. ✗ 25
4. ✗ 30

Question Number : 14 Question Id : 50964713476 Question Type : MCQ Option Shuffling : Yes Display Question Number : Yes
Single Line Question Option : No Option Orientation : Vertical

Correct Marks : 1 Wrong Marks : 0.25

यदि $15\#3 = 25$, $27\#9 = 15$, $102\#17 = 30$ है, तो $152\#19$ का मूल्य क्या है?

Options :

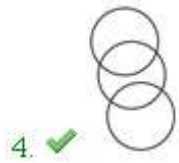
1. ✓ 40
2. ✗ 45
3. ✗ 25
4. ✗ 30

Question Number : 15 Question Id : 50964713477 Question Type : MCQ Option Shuffling : Yes Display Question Number : Yes
Single Line Question Option : No Option Orientation : Vertical

Correct Marks : 1 Wrong Marks : 0.25

Which of the following Venn diagrams best represents the relationship between Russians, Canadians and Scientists?

Options :




Question Number : 15 Question Id : 50964713477 Question Type : MCQ Option Shuffling : Yes Display Question Number : Yes
Single Line Question Option : No Option Orientation : Vertical

Correct Marks : 1 Wrong Marks : 0.25

निम्न में से कौन सा वेन आरेख रूसी, कनाडाई और वैज्ञानिकों के बीच संबंध को सबसे अच्छा दर्शाता है?

Options :



Question Number : 16 Question Id : 50964713478 Question Type : MCQ Option Shuffling : Yes Display Question Number : Yes
Single Line Question Option : No Option Orientation : Vertical

Correct Marks : 1 Wrong Marks : 0.25

A person walks 10 km towards north, then turns towards east and walk 5 km. He then turns to his right and walks 7 km, and then again turns right and walks for 5 km. Where is he standing now with respect to the starting point?

Options :

1. ✘ 4 km south
2. ✘ 4 km north
3. ✔ 3 km north
4. ✘ 3 km south

Question Number : 16 Question Id : 50964713478 Question Type : MCQ Option Shuffling : Yes Display Question Number : Yes Single Line Question Option : No Option Orientation : Vertical

Correct Marks : 1 Wrong Marks : 0.25

एक व्यक्ति उत्तर की ओर 10 km चलता है, फिर पूर्व की ओर मुड़ता है और 5 km चलता है वह फिर अपने दाईं ओर मुड़ता है और 7 km चलता है, और फिर दाहिने मुड़ता है और 5 km तक चलता है। वह अपने प्रारंभिक बिंदु के संबंध में अब कहाँ खड़ा है?

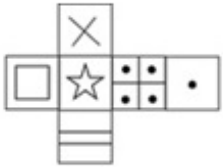
Options :

1. ✘ 4 km दक्षिण
2. ✘ 4 km उत्तर
3. ✔ 3 km उत्तर
4. ✘ 3 km दक्षिण

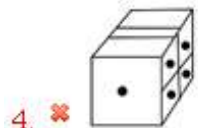
Question Number : 17 Question Id : 50964713479 Question Type : MCQ Option Shuffling : Yes Display Question Number : Yes Single Line Question Option : No Option Orientation : Vertical

Correct Marks : 1 Wrong Marks : 0.25

Which of the following cubes in the answer figure CANNOT be made based on the unfolded cube in the question figure?



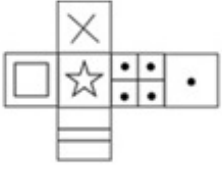
Options :



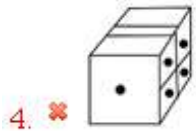
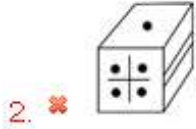
Question Number : 17 Question Id : 50964713479 Question Type : MCQ Option Shuffling : Yes Display Question Number : Yes Single Line Question Option : No Option Orientation : Vertical

Correct Marks : 1 Wrong Marks : 0.25

उत्तर आकृति में किस घन को प्रश्न आकृति में प्रकट घन के आधार पर नहीं बनाया जा सकता है?



Options :



Question Number : 18 Question Id : 50964713480 Question Type : MCQ Option Shuffling : Yes Display Question Number : Yes Single Line Question Option : No Option Orientation : Vertical

Correct Marks : 1 Wrong Marks : 0.25

Out of the given options, three are similar in a certain manner. However, one option is NOT like the other three. Select the option which is different from the rest.

Options :



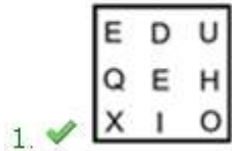


Question Number : 18 Question Id : 50964713480 Question Type : MCQ Option Shuffling : Yes Display Question Number : Yes Single Line Question Option : No Option Orientation : Vertical

Correct Marks : 1 Wrong Marks : 0.25

दिए गए विकल्पों में से तीन एक निश्चित तरीके से समान हैं। हालाँकि, एक विकल्प अन्य तीन की तरह नहीं है। उस विकल्प का चयन करें जो अन्य से अलग है।

Options :



Question Number : 19 Question Id : 50964713481 Question Type : MCQ Option Shuffling : Yes Display Question Number : Yes Single Line Question Option : No Option Orientation : Vertical

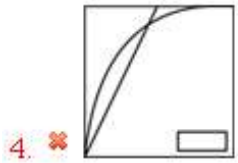
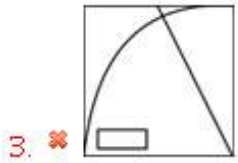
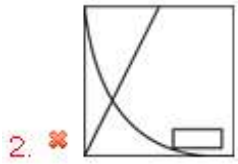
Correct Marks : 1 Wrong Marks : 0.25

Which answer figure will complete the pattern in the question figure?



Options :

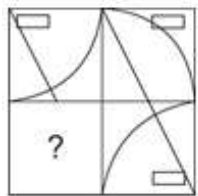




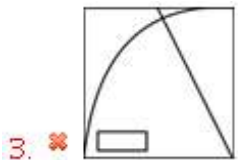
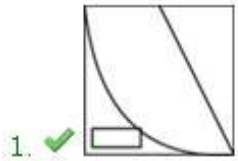
Question Number : 19 Question Id : 50964713481 Question Type : MCQ Option Shuffling : Yes Display Question Number : Yes
Single Line Question Option : No Option Orientation : Vertical

Correct Marks : 1 Wrong Marks : 0.25

कौन सी उत्तर आकृति प्रश्न आकृति में पैटर्न को पूरा करेगी?



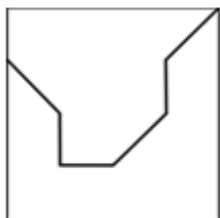
Options :



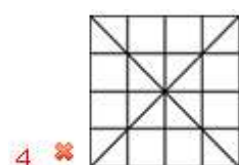
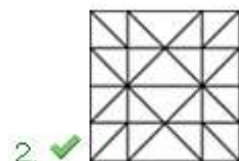
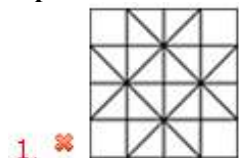
Question Number : 20 Question Id : 50964713482 Question Type : MCQ Option Shuffling : Yes Display Question Number : Yes
Single Line Question Option : No Option Orientation : Vertical

Correct Marks : 1 Wrong Marks : 0.25

From the given answer figures, select the one in which the question figure is hidden/embedded.



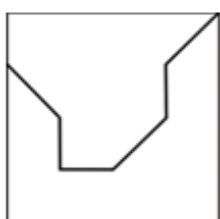
Options :



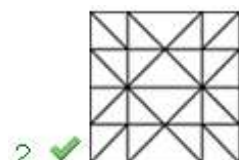
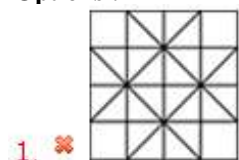
Question Number : 20 Question Id : 50964713482 Question Type : MCQ Option Shuffling : Yes Display Question Number : Yes
Single Line Question Option : No Option Orientation : Vertical

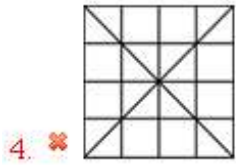
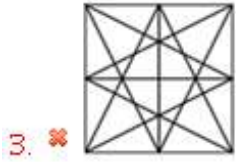
Correct Marks : 1 Wrong Marks : 0.25

दी गई उत्तर आकृतियों में से, उस एक का चयन करें जिसमें प्रश्न आकृति निहित है।



Options :





General Awareness

Group Number :	2
Group Id :	509647373
Group Maximum Duration :	0
Group Minimum Duration :	0
Revisit allowed for view? :	No
Revisit allowed for edit? :	No
Break time:	0
Group Marks:	20
Revisit allowed for group Instructions? :	Yes
Maximum Instruction Time:	0
Minimum Instruction Time:	0

General Awareness

Section Id :	509647533
Section Number :	1
Section type :	Online
Mandatory or Optional:	Mandatory
Number of Questions:	20
Number of Questions to be attempted:	20
Section Marks:	20
Display Number Panel:	Yes
Group All Questions:	No

Sub-Section Number:	1
Sub-Section Id:	509647721
Question Shuffling Allowed :	Yes

Question Number : 21 Question Id : 50964713483 Question Type : MCQ Option Shuffling : Yes Display Question Number : Yes
Single Line Question Option : No Option Orientation : Vertical

Correct Marks : 1 Wrong Marks : 0.25

"Bagurumba" is one of the popular dance form performed by Bodo women. With which state it is associated with?

Options :

1. ✘ Chhattisgarh
2. ✔ Assam
3. ✘ Goa

4. ✖ Gujarat

Question Number : 21 Question Id : 50964713483 Question Type : MCQ Option Shuffling : Yes Display Question Number : Yes
Single Line Question Option : No Option Orientation : Vertical

Correct Marks : 1 Wrong Marks : 0.25

"बागुरुम्बा" बोडो महिलाओं द्वारा प्रस्तुत लोकप्रिय नृत्य रूप में से एक है। यह किस राज्य के साथ जुड़ा है?

Options :

1. ✖ छत्तीसगढ़
2. ✔ असम
3. ✖ गोवा
4. ✖ गुजरात

Question Number : 22 Question Id : 50964713484 Question Type : MCQ Option Shuffling : Yes Display Question Number : Yes
Single Line Question Option : No Option Orientation : Vertical

Correct Marks : 1 Wrong Marks : 0.25

"Jhoori" music is associated with which of the following state?

Options :

1. ✖ Uttar Pradesh
2. ✔ Himachal Pradesh
3. ✖ Punjab
4. ✖ Uttarakhand

Question Number : 22 Question Id : 50964713484 Question Type : MCQ Option Shuffling : Yes Display Question Number : Yes
Single Line Question Option : No Option Orientation : Vertical

Correct Marks : 1 Wrong Marks : 0.25

"झूरी" संगीत निम्नलिखित में से किस राज्य के साथ जुड़ा है?

Options :

1. ✖ उत्तर प्रदेश
2. ✔ हिमाचल प्रदेश
3. ✖ पंजाब
4. ✖ उत्तराखंड

Question Number : 23 Question Id : 50964713485 Question Type : MCQ Option Shuffling : Yes Display Question Number : Yes
Single Line Question Option : No Option Orientation : Vertical

Correct Marks : 1 Wrong Marks : 0.25

Losar festival, which is celebrated by the people of Monpa tribe, is associated with which of the following states?

Options :

1. ✖ Bihar
2. ✔ Arunachal Pradesh
3. ✖ Assam
4. ✖ Gujarat

Question Number : 23 Question Id : 50964713485 Question Type : MCQ Option Shuffling : Yes Display Question Number : Yes
Single Line Question Option : No Option Orientation : Vertical

Correct Marks : 1 Wrong Marks : 0.25

लोसर त्योहार, जो मोनपा जनजाति के लोगों द्वारा मनाया जाता है, निम्नलिखित में से किस राज्य के साथ जुड़ा है?

Options :

1. ✖ बिहार

2. ✓ अरुणाचल प्रदेश
3. ✗ असम
4. ✗ गुजरात

Question Number : 24 Question Id : 50964713486 Question Type : MCQ Option Shuffling : Yes Display Question Number : Yes
Single Line Question Option : No Option Orientation : Vertical

Correct Marks : 1 Wrong Marks : 0.25

What is repo rate?

Options :

1. ✗ Short term rate at which bank lends to RBI
2. ✓ Short term rate at which RBI lends to bank
3. ✗ Short term rate at which Govt. lends to bank
4. ✗ Short term rate at which bank provides loans to customers

Question Number : 24 Question Id : 50964713486 Question Type : MCQ Option Shuffling : Yes Display Question Number : Yes
Single Line Question Option : No Option Orientation : Vertical

Correct Marks : 1 Wrong Marks : 0.25

रेपो रेट क्या है?

Options :

1. ✗ बैंक लघु अवधि दर पर भारतीय रिज़र्व बैंक को ऋण देता है।
2. ✓ लघु अवधि की दर जिस पर भारतीय रिज़र्व बैंक, बैंक को उधार देता है।
3. ✗ लघु अवधि दर जिस पर सरकार बैंक को ऋण देती है।
4. ✗ लघु अवधि दर जिस पर बैंक ग्राहकों को ऋण प्रदान करता है।

Question Number : 25 Question Id : 50964713487 Question Type : MCQ Option Shuffling : Yes Display Question Number : Yes
Single Line Question Option : No Option Orientation : Vertical

Correct Marks : 1 Wrong Marks : 0.25

Which among the following fiscal policies is adopted by the Government to control inflation?

Options :

1. ✗ Increase government expenditure
2. ✓ Increase the rate of taxes
3. ✗ Decrease the rate of taxes
4. ✗ Decrease the money supply in the economy

Question Number : 25 Question Id : 50964713487 Question Type : MCQ Option Shuffling : Yes Display Question Number : Yes
Single Line Question Option : No Option Orientation : Vertical

Correct Marks : 1 Wrong Marks : 0.25

मुद्रास्फीति को नियंत्रित करने के लिए सरकार ने निम्नलिखित राजकोषीय नीतियों में से किसे अपनाया है?

Options :

1. ✗ सरकारी खर्च बढ़ाएं
2. ✓ करों की दर बढ़ाएँ
3. ✗ करों की दर घटाएं
4. ✗ अर्थव्यवस्था में मुद्रा आपूर्ति में कमी

Question Number : 26 Question Id : 50964713488 Question Type : MCQ Option Shuffling : Yes Display Question Number : Yes
Single Line Question Option : No Option Orientation : Vertical

Correct Marks : 1 Wrong Marks : 0.25

What does Vernier Calliper measure?

Options :

- ✘ Temperature
- ✘ Sound
- ✔ Length
- ✘ Speed

Question Number : 26 Question Id : 50964713488 Question Type : MCQ Option Shuffling : Yes Display Question Number : Yes
Single Line Question Option : No Option Orientation : Vertical

Correct Marks : 1 Wrong Marks : 0.25

वर्नियर कैलिपर क्या मापता है?

Options :

- ✘ तापमान
- ✘ ध्वनि
- ✔ लंबाई
- ✘ गति

Question Number : 27 Question Id : 50964713489 Question Type : MCQ Option Shuffling : Yes Display Question Number : Yes
Single Line Question Option : No Option Orientation : Vertical

Correct Marks : 1 Wrong Marks : 0.25

How many litres of blood is present in an adult human body?

Options :

- ✘ 3.5 - 4.2 litres
- ✘ 6.2 - 7.7 litres
- ✘ 7.8 - 8.2 litres
- ✔ 4.5 - 5.7 litres

Question Number : 27 Question Id : 50964713489 Question Type : MCQ Option Shuffling : Yes Display Question Number : Yes
Single Line Question Option : No Option Orientation : Vertical

Correct Marks : 1 Wrong Marks : 0.25

एक वयस्क मानव शरीर में कितने लीटर रक्त मौजूद होता है?

Options :

- ✘ 3.5 - 4.2 लीटर
- ✘ 6.2 - 7.7 लीटर
- ✘ 7.8 - 8.2 लीटर
- ✔ 4.5 - 5.7 लीटर

Question Number : 28 Question Id : 50964713490 Question Type : MCQ Option Shuffling : Yes Display Question Number : Yes
Single Line Question Option : No Option Orientation : Vertical

Correct Marks : 1 Wrong Marks : 0.25

Which among the following continents has the highest number of countries?

Options :

- ✘ North America
- ✘ Europe
- ✘ Asia
- ✔ Africa

Question Number : 28 Question Id : 50964713490 Question Type : MCQ Option Shuffling : Yes Display Question Number : Yes
Single Line Question Option : No Option Orientation : Vertical

Correct Marks : 1 Wrong Marks : 0.25

निम्नलिखित में से किस महाद्वीप में देशों की संख्या सबसे अधिक है?

Options :

- ✘ उत्तरी अमेरिका
- ✘ यूरोप
- ✘ एशिया
- ✔ अफ्रीका

Question Number : 29 Question Id : 50964713491 Question Type : MCQ Option Shuffling : Yes Display Question Number : Yes
Single Line Question Option : No Option Orientation : Vertical

Correct Marks : 1 Wrong Marks : 0.25

In which of the following states is the Ukai Dam located?

Options :

- ✘ Rajasthan
- ✘ Assam
- ✔ Gujarat
- ✘ Madhya Pradesh

Question Number : 29 Question Id : 50964713491 Question Type : MCQ Option Shuffling : Yes Display Question Number : Yes
Single Line Question Option : No Option Orientation : Vertical

Correct Marks : 1 Wrong Marks : 0.25

उकाई बांध, निम्नलिखित में से किस राज्य में स्थित है?

Options :

- ✘ राजस्थान
- ✘ असम
- ✔ गुजरात
- ✘ मध्य प्रदेश

Question Number : 30 Question Id : 50964713492 Question Type : MCQ Option Shuffling : Yes Display Question Number : Yes
Single Line Question Option : No Option Orientation : Vertical

Correct Marks : 1 Wrong Marks : 0.25

Which among the following is the oldest mountain range of India?

Options :

- ✘ Vindhaya
- ✘ Western Ghats
- ✔ Aravallis
- ✘ Girnar

Question Number : 30 Question Id : 50964713492 Question Type : MCQ Option Shuffling : Yes Display Question Number : Yes
Single Line Question Option : No Option Orientation : Vertical

Correct Marks : 1 Wrong Marks : 0.25

निम्नलिखित में से कौन सी भारत की सबसे पुरानी पर्वत श्रृंखला है?

Options :

- ✘ विंध्य
- ✘ पश्चिमी घाट
- ✔ अरावली
- ✘ गिरनार

Question Number : 31 Question Id : 50964713493 Question Type : MCQ Option Shuffling : Yes Display Question Number : Yes
Single Line Question Option : No Option Orientation : Vertical

Correct Marks : 1 Wrong Marks : 0.25

When was the Rowlatt Act passed?

Options :

1. ✘ 1925
2. ✔ 1919
3. ✘ 1905
4. ✘ 1928

Question Number : 31 Question Id : 50964713493 Question Type : MCQ Option Shuffling : Yes Display Question Number : Yes
Single Line Question Option : No Option Orientation : Vertical

Correct Marks : 1 Wrong Marks : 0.25

रॉलेट एक्ट कब पारित किया गया था?

Options :

1. ✘ 1925
2. ✔ 1919
3. ✘ 1905
4. ✘ 1928

Question Number : 32 Question Id : 50964713494 Question Type : MCQ Option Shuffling : Yes Display Question Number : Yes
Single Line Question Option : No Option Orientation : Vertical

Correct Marks : 1 Wrong Marks : 0.25

Which of the following dynasty was founded by Vindhyashakti?

Options :

1. ✘ Kalachuri
2. ✘ Kakatiya
3. ✔ Vakataka
4. ✘ Haryanka

Question Number : 32 Question Id : 50964713494 Question Type : MCQ Option Shuffling : Yes Display Question Number : Yes
Single Line Question Option : No Option Orientation : Vertical

Correct Marks : 1 Wrong Marks : 0.25

विंध्यशक्ति ने निम्नलिखित में से किस वंश की स्थापना की थी?

Options :

1. ✘ कलचुरी
2. ✘ काकतीय
3. ✔ वाकाटक
4. ✘ हर्यक

Question Number : 33 Question Id : 50964713495 Question Type : MCQ Option Shuffling : Yes Display Question Number : Yes
Single Line Question Option : No Option Orientation : Vertical

Correct Marks : 1 Wrong Marks : 0.25

In the second battle of Panipat, Akbar defeated _____.

Options :

1. ✔ Raja Hem Chandra Vikramaditya
2. ✘ Shah Jahan
3. ✘ Sher Shah Suri
4. ✘ Babar

Question Number : 33 Question Id : 50964713495 Question Type : MCQ Option Shuffling : Yes Display Question Number : Yes
Single Line Question Option : No Option Orientation : Vertical

Correct Marks : 1 Wrong Marks : 0.25

पानीपत के दूसरे युद्ध में, अकबर ने _____ को हराया था।

Options :

- ✓ राजा हेम चंद्र विक्रमादित्य
- ✗ शाह जहाँ
- ✗ शेर शाह सूरी
- ✗ बाबर

Question Number : 34 Question Id : 50964713496 Question Type : MCQ Option Shuffling : Yes Display Question Number : Yes
Single Line Question Option : No Option Orientation : Vertical

Correct Marks : 1 Wrong Marks : 0.25

Who is the current (as on April 2019) Director-General of World Trade Organisation (WTO)?

Options :

- ✗ David Shark
- ✗ Yonov Frederick Agah
- ✓ Roberto Azevedo
- ✗ Karl Brauner

Question Number : 34 Question Id : 50964713496 Question Type : MCQ Option Shuffling : Yes Display Question Number : Yes
Single Line Question Option : No Option Orientation : Vertical

Correct Marks : 1 Wrong Marks : 0.25

विश्व व्यापार संगठन (डब्ल्यूटीओ) के महानिदेशक (अप्रैल 2019 तक) कौन हैं?

Options :

- ✗ डेविड शार्क
- ✗ योनोव फ्रेडरिक अगाह
- ✓ रॉबर्टो अजेवेडो
- ✗ कार्ल ब्रूनर

Question Number : 35 Question Id : 50964713497 Question Type : MCQ Option Shuffling : Yes Display Question Number : Yes
Single Line Question Option : No Option Orientation : Vertical

Correct Marks : 1 Wrong Marks : 0.25

Who received the Dadasaheb Phalke award in 2018?

Options :

- ✗ Sridevi
- ✗ Pankaj Tiwari
- ✗ Riddhi Sen
- ✓ Vinod Khanna

Question Number : 35 Question Id : 50964713497 Question Type : MCQ Option Shuffling : Yes Display Question Number : Yes
Single Line Question Option : No Option Orientation : Vertical

Correct Marks : 1 Wrong Marks : 0.25

2018 में दादासाहब फालके पुरस्कार किसे मिला था?

Options :

- ✗ श्रीदेवी
- ✗ पंकज तिवारी
- ✗ रिद्धि सेन
- ✓ विनोद खन्ना

Question Number : 36 Question Id : 50964713498 Question Type : MCQ Option Shuffling : Yes Display Question Number : Yes
Single Line Question Option : No Option Orientation : Vertical

Correct Marks : 1 Wrong Marks : 0.25

With which of the following amendment was Sikkim included as a state?

Options :

1. ✘ 26
2. ✔ 36
3. ✘ 42
4. ✘ 61

Question Number : 36 Question Id : 50964713498 Question Type : MCQ Option Shuffling : Yes Display Question Number : Yes
Single Line Question Option : No Option Orientation : Vertical

Correct Marks : 1 Wrong Marks : 0.25

निम्नलिखित में से किस संशोधन के साथ सिक्किम को एक राज्य के रूप में शामिल किया गया था?

Options :

1. ✘ 26
2. ✔ 36
3. ✘ 42
4. ✘ 61

Question Number : 37 Question Id : 50964713499 Question Type : MCQ Option Shuffling : Yes Display Question Number : Yes
Single Line Question Option : No Option Orientation : Vertical

Correct Marks : 1 Wrong Marks : 0.25

The existence of the concept of "The Single Citizenship" in the Indian Constitution is borrowed from the constitution of _____.

Options :

1. ✘ Australia
2. ✘ Canada
3. ✘ Ireland
4. ✔ Britain

Question Number : 37 Question Id : 50964713499 Question Type : MCQ Option Shuffling : Yes Display Question Number : Yes
Single Line Question Option : No Option Orientation : Vertical

Correct Marks : 1 Wrong Marks : 0.25

भारतीय संविधान में "एकल नागरिकता" की अवधारणा का अस्तित्व _____ के संविधान से अपनाया गया है।

Options :

1. ✘ ऑस्ट्रेलिया
2. ✘ कनाडा
3. ✘ आयरलैंड
4. ✔ ब्रिटेन

Question Number : 38 Question Id : 50964713500 Question Type : MCQ Option Shuffling : Yes Display Question Number : Yes
Single Line Question Option : No Option Orientation : Vertical

Correct Marks : 1 Wrong Marks : 0.25

Who was the first chairman of the House Committee of the Constituent Assembly of India?

Options :

1. ✘ Jawaharlal Nehru
2. ✔ B. Pattabhi Sitaramayya
3. ✘ Dr. K.M. Munshi

4. ✖ N Gopalaswamy Ayyangar

Question Number : 38 Question Id : 50964713500 Question Type : MCQ Option Shuffling : Yes Display Question Number : Yes
Single Line Question Option : No Option Orientation : Vertical

Correct Marks : 1 Wrong Marks : 0.25

भारत की संविधान सभा की सदन समिति के पहले अध्यक्ष कौन थे?

Options :

1. ✖ जवाहरलाल नेहरू
2. ✔ बी पट्टाभि सीतारमैया
3. ✖ डॉ. के. एम. मुंशी
4. ✖ एन. गोपालस्वामी अय्यंगार

Question Number : 39 Question Id : 50964713501 Question Type : MCQ Option Shuffling : Yes Display Question Number : Yes
Single Line Question Option : No Option Orientation : Vertical

Correct Marks : 1 Wrong Marks : 0.25

Who is known as the father of the modern Olympic Games?

Options :

1. ✔ Pierre de Frédy, Baron de Coubertin
2. ✖ Belgian fencer Victor Boin
3. ✖ Gustaf Johan Schartau
4. ✖ Evangelos Zappas

Question Number : 39 Question Id : 50964713501 Question Type : MCQ Option Shuffling : Yes Display Question Number : Yes
Single Line Question Option : No Option Orientation : Vertical

Correct Marks : 1 Wrong Marks : 0.25

आधुनिक ओलंपिक खेलों के जनक के रूप में किसे जाना जाता है?

Options :

1. ✔ पियरे फ्रेडे, बैरोन डे कोबेर्टिन
2. ✖ बेल्जियन फेंसर विकटर बोइन
3. ✖ गुस्ताफ जोहान स्कार्टौ
4. ✖ इवेंजेलोस ज़प्पास

Question Number : 40 Question Id : 50964713502 Question Type : MCQ Option Shuffling : Yes Display Question Number : Yes
Single Line Question Option : No Option Orientation : Vertical

Correct Marks : 1 Wrong Marks : 0.25

Which among the following teams was the first one to win the Women's Hockey World Cup?

Options :

1. ✖ Pakistan
2. ✖ India
3. ✔ Netherlands
4. ✖ Germany

Question Number : 40 Question Id : 50964713502 Question Type : MCQ Option Shuffling : Yes Display Question Number : Yes
Single Line Question Option : No Option Orientation : Vertical

Correct Marks : 1 Wrong Marks : 0.25

निम्नलिखित में से कौन सी टीम महिला हॉकी विश्व कप जीतने वाली पहली टीम थी?

Options :

1. ✖ पाकिस्तान
2. ✖ भारत

3. ✓ नीदरलैंड

4. ✘ जर्मनी

Arithmetic Ability

Group Number :	3
Group Id :	509647374
Group Maximum Duration :	0
Group Minimum Duration :	0
Revisit allowed for view? :	No
Revisit allowed for edit? :	No
Break time:	0
Group Marks:	20
Revisit allowed for group Instructions? :	Yes
Maximum Instruction Time:	0
Minimum Instruction Time:	0

Arithmetic Ability

Section Id :	509647534
Section Number :	1
Section type :	Online
Mandatory or Optional:	Mandatory
Number of Questions:	20
Number of Questions to be attempted:	20
Section Marks:	20
Display Number Panel:	Yes
Group All Questions:	No

Sub-Section Number:	1
Sub-Section Id:	509647722
Question Shuffling Allowed :	Yes

Question Number : 41 Question Id : 50964713503 Question Type : MCQ Option Shuffling : Yes Display Question Number : Yes
Single Line Question Option : No Option Orientation : Vertical

Correct Marks : 1 Wrong Marks : 0.25

Find the value of: $\sqrt{3+\sqrt{27+\sqrt{73+\sqrt{64}}}}$.

Options :

1. ✘ 1

2. ✘ 2

3. ✓ 3

4. ✘ 4

Question Number : 41 Question Id : 50964713503 Question Type : MCQ Option Shuffling : Yes Display Question Number : Yes
Single Line Question Option : No Option Orientation : Vertical

Correct Marks : 1 Wrong Marks : 0.25

$\sqrt{3+\sqrt{27+\sqrt{73+\sqrt{64}}}}$, का मूल्य ज्ञात करो

Options :

1. ✘ 1

2. ✘ 2

3. ✔ 3

4. ✘ 4

Question Number : 42 Question Id : 50964713504 Question Type : MCQ Option Shuffling : Yes Display Question Number : Yes
Single Line Question Option : No Option Orientation : Vertical

Correct Marks : 1 Wrong Marks : 0.25

The HCF and LCM of 2 positive numbers are 2 and 126 respectively. If one of the numbers is 4 more than the other, find the smaller number.

Options :

1. ✘ 12

2. ✔ 14

3. ✘ 16

4. ✘ 18

Question Number : 42 Question Id : 50964713504 Question Type : MCQ Option Shuffling : Yes Display Question Number : Yes
Single Line Question Option : No Option Orientation : Vertical

Correct Marks : 1 Wrong Marks : 0.25

2 धनात्मक संख्याओं का महत्तम समापवर्तक और लघुत्तम समापवर्तक क्रमशः 2 और 126 है। यदि उन संख्याओं में से एक दूसरे से 4 अधिक है, तो छोटी संख्या ज्ञात कीजिए।

Options :

1. ✘ 12

2. ✔ 14

3. ✘ 16

4. ✘ 18

Question Number : 43 Question Id : 50964713505 Question Type : MCQ Option Shuffling : Yes Display Question Number : Yes
Single Line Question Option : No Option Orientation : Vertical

Correct Marks : 1 Wrong Marks : 0.25

What is the result when $0.27272727\dots$ is converted to a fraction?

Options :

1. ✘ $1/11$

2. ✘ $1/9$

3. ✘ $2/11$

4. ✔ $3/11$

Question Number : 43 Question Id : 50964713505 Question Type : MCQ Option Shuffling : Yes Display Question Number : Yes
Single Line Question Option : No Option Orientation : Vertical

Correct Marks : 1 Wrong Marks : 0.25

जब $0.27272727\dots$ को एक अंश में बदला जाता है तो परिणाम क्या होता है?

Options :

1. ✘ $1/11$

2. ✘ $1/9$

3. ✘ $2/11$

4. ✔ $3/11$

Question Number : 44 Question Id : 50964713506 Question Type : MCQ Option Shuffling : Yes Display Question Number : Yes
Single Line Question Option : No Option Orientation : Vertical

Correct Marks : 1 Wrong Marks : 0.25

The average of 5 numbers is 25. Three of the numbers are 21, 22 and 24. The other two are in the ratio 13:16, find the smaller number.

Options :

1. ✓ 26
2. ✗ 13
3. ✗ 19.5
4. ✗ 32.5

Question Number : 44 Question Id : 50964713506 Question Type : MCQ Option Shuffling : Yes Display Question Number : Yes Single Line Question Option : No Option Orientation : Vertical

Correct Marks : 1 Wrong Marks : 0.25

5 संख्याओं का औसत 25 है। उनमें से 3 संख्याएँ 21, 22 और 24 हैं। अन्य 2 का अनुपात 13:16 है, न्यूनतम संख्या ज्ञात करें।

Options :

1. ✓ 26
2. ✗ 13
3. ✗ 19.5
4. ✗ 32.5

Question Number : 45 Question Id : 50964713507 Question Type : MCQ Option Shuffling : Yes Display Question Number : Yes Single Line Question Option : No Option Orientation : Vertical

Correct Marks : 1 Wrong Marks : 0.25

What is the total discount applied when 3 successive discounts of 20%, 10% and 12.5% are applicable?

Options :

1. ✓ 37 percent
2. ✗ 37.5 percent
3. ✗ 32 percent
4. ✗ 36 percent

Question Number : 45 Question Id : 50964713507 Question Type : MCQ Option Shuffling : Yes Display Question Number : Yes Single Line Question Option : No Option Orientation : Vertical

Correct Marks : 1 Wrong Marks : 0.25

20%, 10% और 12.5% की 3 क्रमिक छूट लागू होने पर कुल छूट क्या लागू होती है?

Options :

1. ✓ 37 प्रतिशत
2. ✗ 37.5 प्रतिशत
3. ✗ 32 प्रतिशत
4. ✗ 36 प्रतिशत

Question Number : 46 Question Id : 50964713508 Question Type : MCQ Option Shuffling : Yes Display Question Number : Yes Single Line Question Option : No Option Orientation : Vertical

Correct Marks : 1 Wrong Marks : 0.25

A student scores 92% in an examination of 5 subjects. His scores were 89, 91, 88, 94 in 4 subjects. Find his score in the 5th subject.

Options :

1. ✗ 94
2. ✗ 96
3. ✓ 98
4. ✗ 100

Question Number : 46 Question Id : 50964713508 Question Type : MCQ Option Shuffling : Yes Display Question Number : Yes
Single Line Question Option : No Option Orientation : Vertical

Correct Marks : 1 Wrong Marks : 0.25

एक छात्र 5 विषयों की परीक्षा में 92% अंक प्राप्त करता है। 4 विषयों में उसके अंक 89, 91, 88, 94 हैं। 5 वें विषय में उसके अंक ज्ञात करें।

Options :

1. ✘ 94
2. ✘ 96
3. ✔ 98
4. ✘ 100

Question Number : 47 Question Id : 50964713509 Question Type : MCQ Option Shuffling : Yes Display Question Number : Yes
Single Line Question Option : No Option Orientation : Vertical

Correct Marks : 1 Wrong Marks : 0.25

A batsman scored 160 runs in a cricket match. He hit 24 fours and 8 sixes during his innings. What percent of his runs was scored in boundaries?

Options :

1. ✘ 75
2. ✘ 83.33
3. ✔ 90
4. ✘ 95

Question Number : 47 Question Id : 50964713509 Question Type : MCQ Option Shuffling : Yes Display Question Number : Yes
Single Line Question Option : No Option Orientation : Vertical

Correct Marks : 1 Wrong Marks : 0.25

एक बल्लेबाज ने एक क्रिकेट मैच में 160 रन बनाए। उन्होंने अपनी पारी के दौरान 24 चौके और 8 छक्के लगाए। उनके कितने प्रतिशत रन सीमाओं में थे?

Options :

1. ✘ 75
2. ✘ 83.33
3. ✔ 90
4. ✘ 95

Question Number : 48 Question Id : 50964713510 Question Type : MCQ Option Shuffling : Yes Display Question Number : Yes
Single Line Question Option : No Option Orientation : Vertical

Correct Marks : 1 Wrong Marks : 0.25

Three candidates contested an election and received 500, 750 and 1250 votes respectively. What percentage of votes did the winning candidate get?

Options :

1. ✘ 25 percent
2. ✘ 33.33 percent
3. ✘ 40 percent
4. ✔ 50 percent

Question Number : 48 Question Id : 50964713510 Question Type : MCQ Option Shuffling : Yes Display Question Number : Yes
Single Line Question Option : No Option Orientation : Vertical

Correct Marks : 1 Wrong Marks : 0.25

तीन उम्मीदवारों ने एक चुनाव लड़ा और क्रमशः 500, 750 और 1250 वोट प्राप्त किए। जीतने वाले उम्मीदवार को कितने प्रतिशत वोट मिले?

Options :

1. ✘ 25 प्रतिशत

2. ✘ 33.33 प्रतिशत
3. ✘ 40 प्रतिशत
4. ✔ 50 प्रतिशत

Question Number : 49 Question Id : 50964713511 Question Type : MCQ Option Shuffling : Yes Display Question Number : Yes Single Line Question Option : No Option Orientation : Vertical

Correct Marks : 1 Wrong Marks : 0.25

If an article was bought for Rs. 500 and a repairing charge of Rs. 50 was paid for it and it is supposed to be sold at a profit of 20% on the marked price which is 25% added on the cost price. Find the required selling price.

Options :

1. ✘ Rs. 675
2. ✘ Rs. 725
3. ✘ Rs. 775
4. ✔ Rs. 825

Question Number : 49 Question Id : 50964713511 Question Type : MCQ Option Shuffling : Yes Display Question Number : Yes Single Line Question Option : No Option Orientation : Vertical

Correct Marks : 1 Wrong Marks : 0.25

यदि कोई लेख 500 रुपये में खरीदा गया और उसके मरम्मत पर 50 रुपये खर्च किए गए और इसे अंकित मूल्य पर 20% के लाभ पर बेचा जाना तय हुआ, जो लागत मूल्य से 25% अधिक है। आवश्यक विक्रय मूल्य ज्ञात करें।

Options :

1. ✘ 675 रुपये
2. ✘ 725 रुपये
3. ✘ 775 रुपये
4. ✔ 825 रुपये

Question Number : 50 Question Id : 50964713512 Question Type : MCQ Option Shuffling : Yes Display Question Number : Yes Single Line Question Option : No Option Orientation : Vertical

Correct Marks : 1 Wrong Marks : 0.25

A school has 400 students with the ratio of boys:girls being 3:2. 100 new students were given admission and the ratio changed to 16:9. Find the number of boys who had taken admission.

Options :

1. ✔ 80
2. ✘ 40
3. ✘ 60
4. ✘ 50

Question Number : 50 Question Id : 50964713512 Question Type : MCQ Option Shuffling : Yes Display Question Number : Yes Single Line Question Option : No Option Orientation : Vertical

Correct Marks : 1 Wrong Marks : 0.25

एक स्कूल में लड़कों और लड़कियों के 3:2 अनुपात में 400 छात्र हैं। 100 नए छात्रों को प्रवेश दिया गया और यह अनुपात अब 16:9 में बदल गया। उन लड़कों की संख्या ज्ञात करें, जिन्होंने प्रवेश लिया था।

Options :

1. ✔ 80
2. ✘ 40
3. ✘ 60
4. ✘ 50

Question Number : 51 Question Id : 50964713513 Question Type : MCQ Option Shuffling : Yes Display Question Number : Yes
Single Line Question Option : No Option Orientation : Vertical

Correct Marks : 1 Wrong Marks : 0.25

A and B together have Rs. 1500. If $\frac{4}{5}$ of A's amount is equal to $\frac{7}{10}$ of B's amount, how much does A have?

Options :

1. ✘ Rs. 490
2. ✘ Rs. 560
3. ✔ Rs. 700
4. ✘ Rs. 800

Question Number : 51 Question Id : 50964713513 Question Type : MCQ Option Shuffling : Yes Display Question Number : Yes
Single Line Question Option : No Option Orientation : Vertical

Correct Marks : 1 Wrong Marks : 0.25

A और B के पास मिलाकर 1500 रुपये हैं। यदि A की धनराशि का $\frac{4}{5}$ भाग B की धनराशि के $\frac{7}{10}$ भाग के बराबर है, तो A के पास कितनी धनराशि है?

Options :

1. ✘ 490 रुपये
2. ✘ 560 रुपये
3. ✔ 700 रुपये
4. ✘ 800 रुपये

Question Number : 52 Question Id : 50964713514 Question Type : MCQ Option Shuffling : Yes Display Question Number : Yes
Single Line Question Option : No Option Orientation : Vertical

Correct Marks : 1 Wrong Marks : 0.25

Seats for English, Hindi and Mathematics in a school are in the ratio 12:8:5. There is a proposal to increase these seats by 25%, 50% and 80% respectively. Find the new ratio of the seats.

Options :

1. ✔ 5:4:3
2. ✘ 5:4:5
3. ✘ 5:5:5
4. ✘ 4:5:5

Question Number : 52 Question Id : 50964713514 Question Type : MCQ Option Shuffling : Yes Display Question Number : Yes
Single Line Question Option : No Option Orientation : Vertical

Correct Marks : 1 Wrong Marks : 0.25

एक स्कूल में अंग्रेजी, हिंदी और गणित के लिए सीटें 12:8:5 के अनुपात में हैं। इन सीटों को क्रमशः 25%, 50% और 80% से बढ़ाने का प्रस्ताव है। सीटों का नया अनुपात ज्ञात करें।

Options :

1. ✔ 5:4:3
2. ✘ 5:4:5
3. ✘ 5:5:5
4. ✘ 4:5:5

Question Number : 53 Question Id : 50964713515 Question Type : MCQ Option Shuffling : Yes Display Question Number : Yes
Single Line Question Option : No Option Orientation : Vertical

Correct Marks : 1 Wrong Marks : 0.25

A sum of 14400 amounts to Rs. 21312 in 8 years. What is the simple rate of interest?

Options :

1. ✘ 3 percent
2. ✘ 4 percent

3. ✘ 5 percent

4. ✔ 6 percent

Question Number : 53 Question Id : 50964713515 Question Type : MCQ Option Shuffling : Yes Display Question Number : Yes
Single Line Question Option : No Option Orientation : Vertical

Correct Marks : 1 Wrong Marks : 0.25

8 वर्ष में 14,400 रुपये की धनराशि बढ़कर 21312 रुपये हो जाती है ब्याज की साधारण दर क्या है?

Options :

1. ✘ 3 प्रतिशत

2. ✘ 4 प्रतिशत

3. ✘ 5 प्रतिशत

4. ✔ 6 प्रतिशत

Question Number : 54 Question Id : 50964713516 Question Type : MCQ Option Shuffling : Yes Display Question Number : Yes
Single Line Question Option : No Option Orientation : Vertical

Correct Marks : 1 Wrong Marks : 0.25

A man travelled a distance of 24 km in 3 hours. He travelled partly on foot at 4 km/h and partly on bicycle at 12 km/h. The distance travelled by the man on foot is _____.

Options :

1. ✔ 6 km

2. ✘ 16 km

3. ✘ 12 km

4. ✘ 9 km

Question Number : 54 Question Id : 50964713516 Question Type : MCQ Option Shuffling : Yes Display Question Number : Yes
Single Line Question Option : No Option Orientation : Vertical

Correct Marks : 1 Wrong Marks : 0.25

एक आदमी ने 3 घंटे में 24 km की दूरी तय की। उसने आंशिक रूप से 4 km/h पैदल यात्रा की और आंशिक रूप से 12 km/h साइकिल पर यात्रा की। आदमी द्वारा पैदल तय की गई दूरी _____ है।

Options :

1. ✔ 6 km

2. ✘ 16 km

3. ✘ 12 km

4. ✘ 9 km

Question Number : 55 Question Id : 50964713517 Question Type : MCQ Option Shuffling : Yes Display Question Number : Yes
Single Line Question Option : No Option Orientation : Vertical

Correct Marks : 1 Wrong Marks : 0.25

If A can do a work in 64 days and B is twice as efficient as A. In how many days more will the work be completed if B joins A on the 5th day?

Options :

1. ✘ 10

2. ✘ 16

3. ✘ 18

4. ✔ 20

Question Number : 55 Question Id : 50964713517 Question Type : MCQ Option Shuffling : Yes Display Question Number : Yes
Single Line Question Option : No Option Orientation : Vertical

Correct Marks : 1 Wrong Marks : 0.25

A, 64 दिनों में एक कार्य कर सकता है और B, A की तुलना में दोगुना कुशल है। यदि B 5 वें दिन A के साथ शामिल होता है, तो वह कार्य कितने दिनों में पूरा होगा?

Options :

1. ✘ 10
2. ✘ 16
3. ✘ 18
4. ✔ 20

Question Number : 56 Question Id : 50964713518 Question Type : MCQ Option Shuffling : Yes Display Question Number : Yes Single Line Question Option : No Option Orientation : Vertical

Correct Marks : 1 Wrong Marks : 0.25

A can do a work in 20 days and B can do the work in 30 days. If they work together for 10 days, what fraction of work is left?

Options :

1. ✔ $1/6$
2. ✘ $1/3$
3. ✘ $1/12$
4. ✘ $1/4$

Question Number : 56 Question Id : 50964713518 Question Type : MCQ Option Shuffling : Yes Display Question Number : Yes Single Line Question Option : No Option Orientation : Vertical

Correct Marks : 1 Wrong Marks : 0.25

A एक कार्य को 20 दिनों में और B उस कार्य को 30 दिनों में कर सकता है। यदि वे 10 दिनों के लिए एक साथ काम करते हैं, तो काम का कौन सा अंश बचा है?

Options :

1. ✔ $1/6$
2. ✘ $1/3$
3. ✘ $1/12$
4. ✘ $1/4$

Question Number : 57 Question Id : 50964713519 Question Type : MCQ Option Shuffling : Yes Display Question Number : Yes Single Line Question Option : No Option Orientation : Vertical

Correct Marks : 1 Wrong Marks : 0.25

An error 3% in excess is made while measuring each side of a right triangle. What is the percentage of error in the calculated area of the triangle?

Options :

1. ✘ 4.04 percent
2. ✘ 5.075 percent
3. ✘ 5.705 percent
4. ✔ 6.09 percent

Question Number : 57 Question Id : 50964713519 Question Type : MCQ Option Shuffling : Yes Display Question Number : Yes Single Line Question Option : No Option Orientation : Vertical

Correct Marks : 1 Wrong Marks : 0.25

एक समकोण त्रिभुज की प्रत्येक भुजा को मापते समय 3% अधिक की एक त्रुटि हो जाती है। त्रिभुज के परिकल्पित क्षेत्रफल में त्रुटि का प्रतिशत कितना है?

Options :

1. ✘ 4.04 प्रतिशत
2. ✘ 5.075 प्रतिशत
3. ✘ 5.705 प्रतिशत

4. ✓ 6.09 प्रतिशत

Question Number : 58 Question Id : 50964713520 Question Type : MCQ Option Shuffling : Yes Display Question Number : Yes
Single Line Question Option : No Option Orientation : Vertical

Correct Marks : 1 Wrong Marks : 0.25

88 cubic centimetres of a copper wire is drawn into a wire of 4 mm in diameter. What is the length of the wire?

Options :

1. ✗ 1.75 m
2. ✗ 3.5 m
3. ✓ 7 m
4. ✗ 14 m

Question Number : 58 Question Id : 50964713520 Question Type : MCQ Option Shuffling : Yes Display Question Number : Yes
Single Line Question Option : No Option Orientation : Vertical

Correct Marks : 1 Wrong Marks : 0.25

88 घन सेंटीमीटर व्यास वाले तांबे के तार से 4 mm का तार खींचा जाता है। तार की लंबाई क्या है?

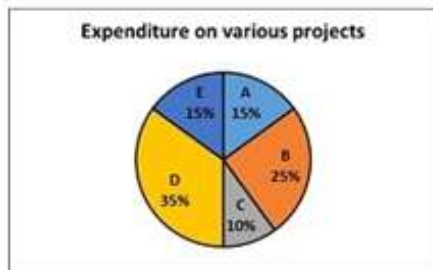
Options :

1. ✗ 1.75 m
2. ✗ 3.5 m
3. ✓ 7 m
4. ✗ 14 m

Question Number : 59 Question Id : 50964713521 Question Type : MCQ Option Shuffling : Yes Display Question Number : Yes
Single Line Question Option : No Option Orientation : Vertical

Correct Marks : 1 Wrong Marks : 0.25

The following pie chart shows the expenditure incurred by a company on various projects. If the expenditure on Project A is Rs. 60,000 less than Project B, what is the expenditure incurred by the company of Project D?



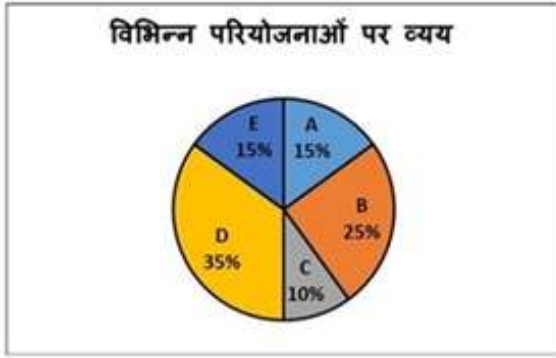
Options :

1. ✓ Rs. 2,10,000
2. ✗ Rs. 6,00,000
3. ✗ Rs. 1,20,000
4. ✗ Rs. 50,000

Question Number : 59 Question Id : 50964713521 Question Type : MCQ Option Shuffling : Yes Display Question Number : Yes
Single Line Question Option : No Option Orientation : Vertical

Correct Marks : 1 Wrong Marks : 0.25

निम्न पाई चार्ट एक कंपनी द्वारा विभिन्न परियोजनाओं पर किए गए खर्च को दर्शाता है। यदि परियोजना A पर किया गया व्यय परियोजना B की तुलना में 60,000 रुपये कम है, तो कंपनी द्वारा परियोजना D पर किया गया व्यय क्या है?



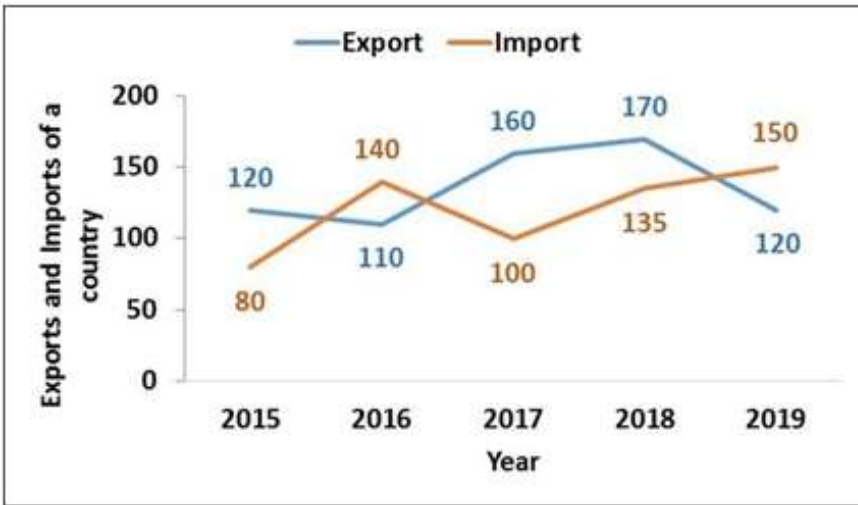
Options :

1. ✓ 2,10,000 रुपये
2. ✗ 6,00,000 रुपये
3. ✗ 1,20,000 रुपये
4. ✗ 50,000 रुपये

Question Number : 60 Question Id : 50964713522 Question Type : MCQ Option Shuffling : Yes Display Question Number : Yes Single Line Question Option : No Option Orientation : Vertical

Correct Marks : 1 Wrong Marks : 0.25

The following line graph shows the exports and imports of a country over different years. In which of the following years, the trade balance (exports - imports) is the highest?



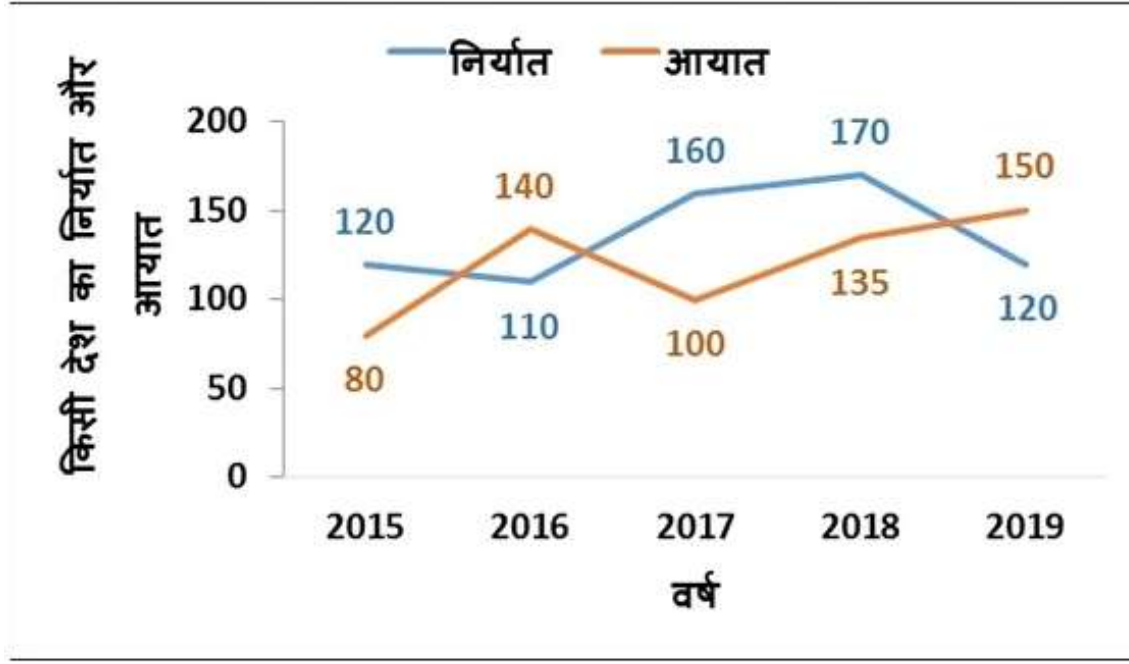
Options :

1. ✓ 2017
2. ✗ 2018
3. ✗ 2016
4. ✗ 2019

Question Number : 60 Question Id : 50964713522 Question Type : MCQ Option Shuffling : Yes Display Question Number : Yes Single Line Question Option : No Option Orientation : Vertical

Correct Marks : 1 Wrong Marks : 0.25

निम्न रेखा आरेख विभिन्न वर्षों में किसी देश के निर्यात और आयात को दर्शाता है। निम्नलिखित में से किस वर्ष में, व्यापार संतुलन (निर्यात - आयात) सबसे अधिक है?



Options :

1. ✓ 2017
2. ✗ 2018
3. ✗ 2016
4. ✗ 2019

General English

Group Number :	4
Group Id :	509647375
Group Maximum Duration :	0
Group Minimum Duration :	0
Revisit allowed for view? :	No
Revisit allowed for edit? :	No
Break time:	0
Group Marks:	20
Revisit allowed for group Instructions? :	Yes
Maximum Instruction Time:	0
Minimum Instruction Time:	0

General English

Section Id :	509647535
Section Number :	1
Section type :	Online
Mandatory or Optional:	Mandatory
Number of Questions:	16
Number of Questions to be attempted:	16
Section Marks:	20
Display Number Panel:	Yes
Group All Questions:	No

Sub-Section Number: 1
Sub-Section Id: 509647723
Question Shuffling Allowed : Yes

Question Number : 61 Question Id : 50964713523 Question Type : MCQ Option Shuffling : Yes Display Question Number : Yes
Single Line Question Option : No Option Orientation : Vertical

Correct Marks : 1 Wrong Marks : 0.25

In the following statement, one part of the sentence may have an error. Find out which part of the sentence has an error and click the button corresponding to it. If the sentence is free from error, select the "No error" option.

(A) Neither Ankita / (B) or Rashi is keen / (C) on joining the dance. / (D) No error

Options :

1. ✘ A
2. ✔ B
3. ✘ C
4. ✘ D

Question Number : 61 Question Id : 50964713523 Question Type : MCQ Option Shuffling : Yes Display Question Number : Yes
Single Line Question Option : No Option Orientation : Vertical

Correct Marks : 1 Wrong Marks : 0.25

In the following statement, one part of the sentence may have an error. Find out which part of the sentence has an error and click the button corresponding to it. If the sentence is free from error, select the "No error" option.

(A) Neither Ankita / (B) or Rashi is keen / (C) on joining the dance. / (D) No error

Options :

1. ✘ A
2. ✔ B
3. ✘ C
4. ✘ D

Question Number : 62 Question Id : 50964713524 Question Type : MCQ Option Shuffling : Yes Display Question Number : Yes
Single Line Question Option : No Option Orientation : Vertical

Correct Marks : 1 Wrong Marks : 0.25

The sentence below has been divided into three parts. Select the part of the sentence that has an error. If the sentence has no error, select the option 'No Error'.

Children are not allowed / to enter the swimming pool area / except they are accompanied by an adult. / No Error

Options :

1. ✘ Children are not allowed
2. ✘ to enter the swimming pool area
3. ✔ except they are accompanied by an adult.
4. ✘ No Error

Question Number : 62 Question Id : 50964713524 Question Type : MCQ Option Shuffling : Yes Display Question Number : Yes
Single Line Question Option : No Option Orientation : Vertical

Correct Marks : 1 Wrong Marks : 0.25

The sentence below has been divided into three parts. Select the part of the sentence that has an error. If the sentence has no error, select the option 'No Error'.

Children are not allowed / to enter the swimming pool area / except they are accompanied by an adult. / No Error

Options :

- ✘ Children are not allowed
- ✘ to enter the swimming pool area
- ✔ except they are accompanied by an adult.
- ✘ No Error

Question Number : 63 Question Id : 50964713525 Question Type : MCQ Option Shuffling : Yes Display Question Number : Yes Single Line Question Option : No Option Orientation : Vertical

Correct Marks : 1 Wrong Marks : 0.25

Replace the words in the bracket from the set of options given.

Ben could not help (but laugh) at his joke.

Options :

- ✘ will be laughing
- ✔ laughing
- ✘ has laughed
- ✘ laughed

Question Number : 63 Question Id : 50964713525 Question Type : MCQ Option Shuffling : Yes Display Question Number : Yes Single Line Question Option : No Option Orientation : Vertical

Correct Marks : 1 Wrong Marks : 0.25

Replace the words in the bracket from the set of options given.

Ben could not help (but laugh) at his joke.

Options :

- ✘ will be laughing
- ✔ laughing
- ✘ has laughed
- ✘ laughed

Question Number : 64 Question Id : 50964713526 Question Type : MCQ Option Shuffling : Yes Display Question Number : Yes Single Line Question Option : No Option Orientation : Vertical

Correct Marks : 1 Wrong Marks : 0.25

Select the option that can correctly replace the highlighted word or phrase and make the sentence grammatically correct. Select the 'No correction required' option if the sentence is correct as it is given.

He is waiting (in) the door.

Options :

- ✔ at
- ✘ over
- ✘ on
- ✘ about

Question Number : 64 Question Id : 50964713526 Question Type : MCQ Option Shuffling : Yes Display Question Number : Yes Single Line Question Option : No Option Orientation : Vertical

Correct Marks : 1 Wrong Marks : 0.25

Select the option that can correctly replace the highlighted word or phrase and make the sentence grammatically correct. Select the 'No correction required' option if the sentence is correct as it is given.

He is waiting (in) the door.

Options :

1. ✓ at
2. ✗ over
3. ✗ on
4. ✗ about

Question Number : 65 Question Id : 50964713527 Question Type : MCQ Option Shuffling : Yes Display Question Number : Yes Single Line Question Option : No Option Orientation : Vertical

Correct Marks : 1 Wrong Marks : 0.25

Select the option that correctly (and most appropriately) fills in the blank and completes the sentence below.

What _____ he doing when you reached home last evening?

Options :

1. ✗ is
2. ✓ was
3. ✗ will be
4. ✗ has

Question Number : 65 Question Id : 50964713527 Question Type : MCQ Option Shuffling : Yes Display Question Number : Yes Single Line Question Option : No Option Orientation : Vertical

Correct Marks : 1 Wrong Marks : 0.25

Select the option that correctly (and most appropriately) fills in the blank and completes the sentence below.

What _____ he doing when you reached home last evening?

Options :

1. ✗ is
2. ✓ was
3. ✗ will be
4. ✗ has

Question Number : 66 Question Id : 50964713528 Question Type : MCQ Option Shuffling : Yes Display Question Number : Yes Single Line Question Option : No Option Orientation : Vertical

Correct Marks : 1 Wrong Marks : 0.25

The questions below consist of a set of labelled parts of a sentence. Out of four options given, select the most logical order of the parts which form a coherent sentence.

Soil contamination as

P : in the natural soil environment

Q : part of land degradation

R : chemicals or other alteration

S : is caused by the presence of human-made

Options :

1. ✗ PQRS
2. ✗ RSQP
3. ✗ SQRP
4. ✓ QSRP

Question Number : 66 Question Id : 50964713528 Question Type : MCQ Option Shuffling : Yes Display Question Number : Yes
Single Line Question Option : No Option Orientation : Vertical

Correct Marks : 1 Wrong Marks : 0.25

The questions below consist of a set of labelled parts of a sentence. Out of four options given, select the most logical order of the parts which form a coherent sentence.

Soil contamination as

P : in the natural soil environment

Q : part of land degradation

R : chemicals or other alteration

S : is caused by the presence of human-made

Options :

1. ✘ PQRS
2. ✘ RSQP
3. ✘ SQRP
4. ✔ QSRP

Question Number : 67 Question Id : 50964713529 Question Type : MCQ Option Shuffling : Yes Display Question Number : Yes
Single Line Question Option : No Option Orientation : Vertical

Correct Marks : 1 Wrong Marks : 0.25

Out of the four alternatives, choose the word which best expresses the meaning of the given word.

Vigilant

Options :

1. ✘ Dishonest
2. ✘ Fear
3. ✔ Alert
4. ✘ Bravery

Question Number : 67 Question Id : 50964713529 Question Type : MCQ Option Shuffling : Yes Display Question Number : Yes
Single Line Question Option : No Option Orientation : Vertical

Correct Marks : 1 Wrong Marks : 0.25

Out of the four alternatives, choose the word which best expresses the meaning of the given word.

Vigilant

Options :

1. ✘ Dishonest
2. ✘ Fear
3. ✔ Alert
4. ✘ Bravery

Question Number : 68 Question Id : 50964713530 Question Type : MCQ Option Shuffling : Yes Display Question Number : Yes
Single Line Question Option : No Option Orientation : Vertical

Correct Marks : 1 Wrong Marks : 0.25

Out of the four alternatives, choose the word which is OPPOSITE in meaning to the given word.

Despair

Options :

1. ✔ Hope
2. ✘ Forfeit
3. ✘ Latent
4. ✘ Vague

Question Number : 68 Question Id : 50964713530 Question Type : MCQ Option Shuffling : Yes Display Question Number : Yes
Single Line Question Option : No Option Orientation : Vertical

Correct Marks : 1 Wrong Marks : 0.25

Out of the four alternatives, choose the word which is OPPOSITE in meaning to the given word.
Despair

Options :

1. ✓ Hope
2. ✗ Forfeit
3. ✗ Latent
4. ✗ Vague

Question Number : 69 Question Id : 50964713531 Question Type : MCQ Option Shuffling : Yes Display Question Number : Yes
Single Line Question Option : No Option Orientation : Vertical

Correct Marks : 1 Wrong Marks : 0.25

Four words are given, out of which only one word is spelt correctly. Choose the correctly spelt word.

Options :

1. ✗ Hemmorage
2. ✓ Haemorrhage
3. ✗ Hemorrhage
4. ✗ Hemorage

Question Number : 69 Question Id : 50964713531 Question Type : MCQ Option Shuffling : Yes Display Question Number : Yes
Single Line Question Option : No Option Orientation : Vertical

Correct Marks : 1 Wrong Marks : 0.25

Four words are given, out of which only one word is spelt correctly. Choose the correctly spelt word.

Options :

1. ✗ Hemmorage
2. ✓ Haemorrhage
3. ✗ Hemorrhage
4. ✗ Hemorage

Question Number : 70 Question Id : 50964713532 Question Type : MCQ Option Shuffling : Yes Display Question Number : Yes
Single Line Question Option : No Option Orientation : Vertical

Correct Marks : 1 Wrong Marks : 0.25

Four words are given, out of which only one word is spelt correctly. Choose the correctly spelt word.

Options :

1. ✗ Onometopai
2. ✗ Onometopia
3. ✗ Onomatopia
4. ✓ Onomatopoeia

Question Number : 70 Question Id : 50964713532 Question Type : MCQ Option Shuffling : Yes Display Question Number : Yes
Single Line Question Option : No Option Orientation : Vertical

Correct Marks : 1 Wrong Marks : 0.25

Four words are given, out of which only one word is spelt correctly. Choose the correctly spelt word.

Options :

1. ✗ Onometopai
2. ✗ Onometopia

3. ✘ Onomatopia
4. ✔ Onomatopoeia

Question Number : 71 Question Id : 50964713533 Question Type : MCQ Option Shuffling : Yes Display Question Number : Yes
Single Line Question Option : No Option Orientation : Vertical

Correct Marks : 1 Wrong Marks : 0.25

Select the word that is spelled correctly.

Options :

1. ✘ grammer
2. ✘ gramer
3. ✘ gramar
4. ✔ grammar

Question Number : 71 Question Id : 50964713533 Question Type : MCQ Option Shuffling : Yes Display Question Number : Yes
Single Line Question Option : No Option Orientation : Vertical

Correct Marks : 1 Wrong Marks : 0.25

Select the word that is spelled correctly.

Options :

1. ✘ grammer
2. ✘ gramer
3. ✘ gramar
4. ✔ grammar

Question Number : 72 Question Id : 50964713534 Question Type : MCQ Option Shuffling : Yes Display Question Number : Yes
Single Line Question Option : No Option Orientation : Vertical

Correct Marks : 1 Wrong Marks : 0.25

What does the following idiom mean?

Close-fisted man

Options :

1. ✘ Donor
2. ✘ Philanthropist
3. ✔ Miser
4. ✘ Sponsor

Question Number : 72 Question Id : 50964713534 Question Type : MCQ Option Shuffling : Yes Display Question Number : Yes
Single Line Question Option : No Option Orientation : Vertical

Correct Marks : 1 Wrong Marks : 0.25

What does the following idiom mean?

Close-fisted man

Options :

1. ✘ Donor
2. ✘ Philanthropist
3. ✔ Miser
4. ✘ Sponsor

Question Number : 73 Question Id : 50964713535 Question Type : MCQ Option Shuffling : Yes Display Question Number : Yes
Single Line Question Option : No Option Orientation : Vertical

Correct Marks : 1 Wrong Marks : 0.25

What does the following idiom mean?

A wolf in sheep's clothing

Options :

1. ✓ A person or thing that appears friendly or harmless but is really hostile.
2. ✗ Don't judge someone by his appearance.
3. ✗ To be odd one out in a group.
4. ✗ You don't become smart by just wearing good clothes.

Question Number : 73 Question Id : 50964713535 Question Type : MCQ Option Shuffling : Yes Display Question Number : Yes
Single Line Question Option : No Option Orientation : Vertical

Correct Marks : 1 Wrong Marks : 0.25

What does the following idiom mean?

A wolf in sheep's clothing

Options :

1. ✓ A person or thing that appears friendly or harmless but is really hostile.
2. ✗ Don't judge someone by his appearance.
3. ✗ To be odd one out in a group.
4. ✗ You don't become smart by just wearing good clothes.

Question Number : 74 Question Id : 50964713536 Question Type : MCQ Option Shuffling : Yes Display Question Number : Yes
Single Line Question Option : No Option Orientation : Vertical

Correct Marks : 1 Wrong Marks : 0.25

In the following question, out of four alternatives, select the alternative which is the best substitute of the words/sentences.

A person who has an excessive interest in or admiration of themselves.

Options :

1. ✓ Narcissist
2. ✗ Lunatic
3. ✗ Somnambulist
4. ✗ Numismatist

Question Number : 74 Question Id : 50964713536 Question Type : MCQ Option Shuffling : Yes Display Question Number : Yes
Single Line Question Option : No Option Orientation : Vertical

Correct Marks : 1 Wrong Marks : 0.25

In the following question, out of four alternatives, select the alternative which is the best substitute of the words/sentences.

A person who has an excessive interest in or admiration of themselves.

Options :

1. ✓ Narcissist
2. ✗ Lunatic
3. ✗ Somnambulist
4. ✗ Numismatist

Question Number : 75 Question Id : 50964713537 Question Type : MCQ Option Shuffling : Yes Display Question Number : Yes
Single Line Question Option : No Option Orientation : Vertical

Correct Marks : 1 Wrong Marks : 0.25

In the following question, out of four alternatives, select the alternative which is the best substitute of the words / sentences.

A state, society or group governed by old people.

Options :

1. ✘ Aristocracy
2. ✘ Bureaucracy
3. ✘ Democracy
4. ✔ Gerontocracy

Question Number : 75 Question Id : 50964713537 Question Type : MCQ Option Shuffling : Yes Display Question Number : Yes
Single Line Question Option : No Option Orientation : Vertical

Correct Marks : 1 Wrong Marks : 0.25

In the following question, out of four alternatives, select the alternative which is the best substitute of the words/sentences.

A state, society or group governed by old people.

Options :

1. ✘ Aristocracy
2. ✘ Bureaucracy
3. ✘ Democracy
4. ✔ Gerontocracy

Sub-Section Number:	2
Sub-Section Id:	509647724
Question Shuffling Allowed :	Yes

Question Id : 50964713538 Question Type : COMPREHENSION Sub Question Shuffling Allowed : Yes Group Comprehension Questions : No

Question Numbers : (76 to 80)

Question Label : Comprehension

Read the passage carefully and answer the given question:

In 1837 Louis Aggasiz, a young naturalist, had to suffer ridicule at the hands of geologists while trying to prove that the earth had gone through a number of ice ages. Then, for almost a century, the four-fold ice age scheme of the Alps (Wurm, Riss, Mindel and Gunz) given by Alberta Penck and E. B. Rucker in 1909 got so well entrenched in geology that most of the global evidence was forced to fit into this fourfold framework and nobody dared to think of more than four ice ages. Only recently have the data from sea-cores and deep ice cores revealed that, in the last 2 million years, the earth has witnessed 17-18 cold-warm oscillations rather than four, as believed earlier. More important was the realization that ice ages, were several times longer than the warm periods and that they could be triggered off even within a brief space of a century. The warm periods were normally only of a span of 10-15 thousand years. The portrait of an ice age is starkly gloomy. Vast areas of earth, including large areas of Europe, Canada, U.S.A and India: may come under a thick blanket of ice and the lower latitudes will be under the grip of droughts and famine. With the already mounting food and fuel crisis, the earth can ill-afford such a catastrophe.

Sub questions

Question Number : 76 Question Id : 50964713539 Question Type : MCQ Option Shuffling : Yes Display Question Number : Yes
Single Line Question Option : No Option Orientation : Vertical

Correct Marks : 1 Wrong Marks : 0.25

When was the four fold ice age scheme of the Alps given by Alberta Penck and E. B. Rucker?

Options :

1. ✘ 1898
2. ✘ 1902
3. ✔ 1909
4. ✘ 1837

Question Number : 77 Question Id : 50964713540 Question Type : MCQ Option Shuffling : Yes Display Question Number : Yes Single Line Question Option : No Option Orientation : Vertical

Correct Marks : 1 Wrong Marks : 0.25

Why did geologists laugh at Louis Aggasiz?

Options :

1. ✔ He tried to prove that earth had gone through a number of ice ages.
2. ✘ He tried to prove that earth has gone through only 4 ice ages.
3. ✘ He believed that vast areas of earth will be affected by famine and droughts in the upcoming years.
4. ✘ He stated that warm periods were 10-15 thousand years long.

Question Number : 78 Question Id : 50964713541 Question Type : MCQ Option Shuffling : Yes Display Question Number : Yes Single Line Question Option : No Option Orientation : Vertical

Correct Marks : 1 Wrong Marks : 0.25

Which among the following is not one of the four fold ice age scheme of the Alps?

Options :

1. ✘ Wurm
2. ✔ Gonk
3. ✘ Riss
4. ✘ Mindel

Question Number : 79 Question Id : 50964713542 Question Type : MCQ Option Shuffling : Yes Display Question Number : Yes Single Line Question Option : No Option Orientation : Vertical

Correct Marks : 1 Wrong Marks : 0.25

How long did warm periods normally last?

Options :

1. ✘ 20-25 thousand years
2. ✘ 15-20 thousand years
3. ✘ 5-10 thousand years
4. ✔ 10-15 thousand years

Question Number : 80 Question Id : 50964713543 Question Type : MCQ Option Shuffling : Yes Display Question Number : Yes Single Line Question Option : No Option Orientation : Vertical

Correct Marks : 1 Wrong Marks : 0.25

According to the data from sea-cores and deep ice cores, how many cold-warm oscillations earth had witnessed?

Options :

1. ✘ 10-15
2. ✔ 17-18
3. ✘ 5-10
4. ✘ 16-17

Question Id : 50964713538 Question Type : COMPREHENSION Sub Question Shuffling Allowed : Yes Group Comprehension Questions : No

Question Numbers : (76 to 80)

Question Label : Comprehension

Read the passage carefully and answer the given question.

In 1837 Louis Aggasiz, a young naturalist, had to suffer ridicule at the hands of geologists while trying to prove that the earth had gone through a number of ice ages. Then, for almost a century, the four-fold ice age scheme of the Alps (Wurm, Riss, Mindel and Gunz) given by Alberta Penck and E. B. Rucker in 1909 got so well entrenched in geology that most of the global evidence was forced to fit into this fourfold framework and nobody dared to think of more than four ice ages. Only recently have the data from sea-cores and deep ice cores revealed that, in the last 2 million years, the earth has witnessed 17-18 cold-warm oscillations rather than four, as believed earlier. More important was the realization that ice ages, were several times longer than the warm periods and that they could be triggered off even within a brief space of a century. The warm periods were normally only of a span of 10-15 thousand years. The portrait of an ice age is starkly gloomy. Vast areas of earth, including large areas of Europe, Canada, U.S.A and India: may come under a thick blanket of ice and the lower latitudes will be under the grip of droughts and famine. With the already mounting food and fuel crisis, the earth can ill-afford such a catastrophe.

Sub questions

Question Number : 76 Question Id : 50964713539 Question Type : MCQ Option Shuffling : Yes Display Question Number : Yes Single Line Question Option : No Option Orientation : Vertical

Correct Marks : 1 Wrong Marks : 0.25

When was the four fold ice age scheme of the Alps given by Alberta Penck and E. B. Rucker?

Options :

1. ✘ 1898
2. ✘ 1902
3. ✔ 1909
4. ✘ 1837

Question Number : 77 Question Id : 50964713540 Question Type : MCQ Option Shuffling : Yes Display Question Number : Yes Single Line Question Option : No Option Orientation : Vertical

Correct Marks : 1 Wrong Marks : 0.25

Why did geologists laugh at Louis Aggasiz?

Options :

1. ✔ He tried to prove that earth had gone through a number of ice ages.
2. ✘ He tried to prove that earth has gone through only 4 ice ages.
3. ✘ He believed that vast areas of earth will be affected by famine and droughts in the upcoming years.
4. ✘ He stated that warm periods were 10-15 thousand years long.

Question Number : 78 Question Id : 50964713541 Question Type : MCQ Option Shuffling : Yes Display Question Number : Yes Single Line Question Option : No Option Orientation : Vertical

Correct Marks : 1 Wrong Marks : 0.25

Which among the following is not one of the four fold ice age scheme of the Alps?

Options :

1. ✘ Wurm
2. ✔ Gonk
3. ✘ Riss
4. ✘ Mindel

Question Number : 79 Question Id : 50964713542 Question Type : MCQ Option Shuffling : Yes Display Question Number : Yes Single Line Question Option : No Option Orientation : Vertical

Correct Marks : 1 Wrong Marks : 0.25

How long did warm periods normally last?

Options :

1. ✘ 20-25 thousand years
2. ✘ 15-20 thousand years
3. ✘ 5-10 thousand years
4. ✔ 10-15 thousand years

Question Number : 80 Question Id : 50964713543 Question Type : MCQ Option Shuffling : Yes Display Question Number : Yes
Single Line Question Option : No Option Orientation : Vertical

Correct Marks : 1 Wrong Marks : 0.25

According to the data from sea-cores and deep ice cores, how many cold-warm oscillations earth had witnessed?

Options :

1. ✘ 10-15
2. ✔ 17-18
3. ✘ 5-10
4. ✘ 16-17

General Hindi

Group Number :	5
Group Id :	509647376
Group Maximum Duration :	0
Group Minimum Duration :	0
Revisit allowed for view? :	No
Revisit allowed for edit? :	No
Break time:	0
Group Marks:	20
Revisit allowed for group Instructions? :	Yes
Maximum Instruction Time:	0
Minimum Instruction Time:	0

General Hindi

Section Id :	509647536
Section Number :	1
Section type :	Online
Mandatory or Optional:	Mandatory
Number of Questions:	16
Number of Questions to be attempted:	16
Section Marks:	20
Display Number Panel:	Yes
Group All Questions:	No

Sub-Section Number:	1
Sub-Section Id:	509647725
Question Shuffling Allowed :	Yes

Question Number : 81 Question Id : 50964713544 Question Type : MCQ Option Shuffling : Yes Display Question Number : Yes
Single Line Question Option : No Option Orientation : Vertical

Correct Marks : 1 Wrong Marks : 0.25

निम्नलिखित प्रश्न में, चार विकल्पों में से, उस विकल्प का चयन करें जो उपसर्ग से बना है।

Options :

1. ✓ संसार
2. ✗ पर्वतीय
3. ✗ तैयारी
4. ✗ दक्षिणी

Question Number : 81 Question Id : 50964713544 Question Type : MCQ Option Shuffling : Yes Display Question Number : Yes
Single Line Question Option : No Option Orientation : Vertical

Correct Marks : 1 Wrong Marks : 0.25

निम्नलिखित प्रश्न में, चार विकल्पों में से, उस विकल्प का चयन करें जो उपसर्ग से बना है।

Options :

1. ✓ संसार
2. ✗ पर्वतीय
3. ✗ तैयारी
4. ✗ दक्षिणी

Question Number : 82 Question Id : 50964713545 Question Type : MCQ Option Shuffling : Yes Display Question Number : Yes
Single Line Question Option : No Option Orientation : Vertical

Correct Marks : 1 Wrong Marks : 0.25

निम्नलिखित प्रश्न में, चार विकल्पों में से, उस सही विकल्प का चयन करें जो प्रत्यय से बना शब्द है।

Options :

1. ✗ अभियान
2. ✗ दुर्गम
3. ✗ अत्यंत
4. ✓ पारित

Question Number : 82 Question Id : 50964713545 Question Type : MCQ Option Shuffling : Yes Display Question Number : Yes
Single Line Question Option : No Option Orientation : Vertical

Correct Marks : 1 Wrong Marks : 0.25

निम्नलिखित प्रश्न में, चार विकल्पों में से, उस सही विकल्प का चयन करें जो प्रत्यय से बना शब्द है।

Options :

1. ✗ अभियान
2. ✗ दुर्गम
3. ✗ अत्यंत
4. ✓ पारित

Question Number : 83 Question Id : 50964713546 Question Type : MCQ Option Shuffling : Yes Display Question Number : Yes
Single Line Question Option : No Option Orientation : Vertical

Correct Marks : 1 Wrong Marks : 0.25

निम्नलिखित प्रश्न में, चार विकल्पों में से, रिक्त स्थान के लिए निर्देशानुसार उचित विकल्प का चयन करें।

यद्यपि मैंने बहुत परिश्रम किया, _____ परीक्षा में सफल नहीं हो पाया। (व्यधिकरण समुच्चयबोधक)

Options :

1. ✗ परंतु
2. ✗ लेकिन
3. ✓ फिर भी
4. ✗ किन्तु

Question Number : 83 Question Id : 50964713546 Question Type : MCQ Option Shuffling : Yes Display Question Number : Yes
Single Line Question Option : No Option Orientation : Vertical

Correct Marks : 1 Wrong Marks : 0.25

निम्नलिखित प्रश्न में, चार विकल्पों में से, रिक्त स्थान के लिए निर्देशानुसार उचित विकल्प का चयन करें

यद्यपि मैंने बहुत परिश्रम किया, ----- परीक्षा में सफल नहीं हो पाया। (व्यधिकरण समुच्चयबोधक)

Options :

1. ✘ परंतु
2. ✘ लेकिन
3. ✔ फिर भी
4. ✘ किन्तु

Question Number : 84 Question Id : 50964713547 Question Type : MCQ Option Shuffling : Yes Display Question Number : Yes
Single Line Question Option : No Option Orientation : Vertical

Correct Marks : 1 Wrong Marks : 0.25

निम्नलिखित प्रश्न में, चार विकल्पों में से, उस विकल्प का चयन करें जो दिए गए शब्द का सही संधि-विच्छेद वाला विकल्प हो

सञ्चारित्र

Options :

1. ✘ सच + चरित्र
2. ✘ सत + चरित्र
3. ✔ सत् + चरित्र
4. ✘ सच + रित्र

Question Number : 84 Question Id : 50964713547 Question Type : MCQ Option Shuffling : Yes Display Question Number : Yes
Single Line Question Option : No Option Orientation : Vertical

Correct Marks : 1 Wrong Marks : 0.25

निम्नलिखित प्रश्न में, चार विकल्पों में से, उस विकल्प का चयन करें जो दिए गए शब्द का सही संधि-विच्छेद वाला विकल्प हो

सञ्चारित्र

Options :

1. ✘ सच + चरित्र
2. ✘ सत + चरित्र
3. ✔ सत् + चरित्र
4. ✘ सच + रित्र

Question Number : 85 Question Id : 50964713548 Question Type : MCQ Option Shuffling : Yes Display Question Number : Yes
Single Line Question Option : No Option Orientation : Vertical

Correct Marks : 1 Wrong Marks : 0.25

निम्नलिखित प्रश्न में, चार विकल्पों में से, उस विकल्प का चयन करें जो समानार्थी शब्द का सही विकल्प नहीं है

अपवित्र

Options :

1. ✘ अशुचि
2. ✘ अपावन
3. ✔ कृशानु
4. ✘ दूषित

Question Number : 85 Question Id : 50964713548 Question Type : MCQ Option Shuffling : Yes Display Question Number : Yes
Single Line Question Option : No Option Orientation : Vertical

Correct Marks : 1 Wrong Marks : 0.25

निम्नलिखित प्रश्न में, चार विकल्पों में से, उस विकल्प का चयन करें जो समानार्थी शब्द का सही विकल्प नहीं है।

अपवित्र

Options :

1. ✘ अशुचि
2. ✘ अपावन
3. ✔ कृशानु
4. ✘ दूषित

Question Number : 86 Question Id : 50964713549 Question Type : MCQ Option Shuffling : Yes Display Question Number : Yes
Single Line Question Option : No Option Orientation : Vertical

Correct Marks : 1 Wrong Marks : 0.25

निम्नलिखित प्रश्न में, चार विकल्पों में से, उस विकल्प का चयन करें जो विलोम शब्द का सबसे अच्छा विकल्प है।

परकीया

Options :

1. ✘ क्रिया
2. ✘ नायक
3. ✘ नायिका
4. ✔ स्वकीया

Question Number : 86 Question Id : 50964713549 Question Type : MCQ Option Shuffling : Yes Display Question Number : Yes
Single Line Question Option : No Option Orientation : Vertical

Correct Marks : 1 Wrong Marks : 0.25

निम्नलिखित प्रश्न में, चार विकल्पों में से, उस विकल्प का चयन करें जो विलोम शब्द का सबसे अच्छा विकल्प है।

परकीया

Options :

1. ✘ क्रिया
2. ✘ नायक
3. ✘ नायिका
4. ✔ स्वकीया

Question Number : 87 Question Id : 50964713550 Question Type : MCQ Option Shuffling : Yes Display Question Number : Yes
Single Line Question Option : No Option Orientation : Vertical

Correct Marks : 1 Wrong Marks : 0.25

निम्नलिखित प्रश्न में, चार विकल्पों में से, उस विकल्प का चयन करें जो रेखांकित शब्द के लिए उचित विकल्प हो।

बच्चे को बिलखता देख कर सीमा का _____ जाग उठा।

Options :

1. ✘ ममता
2. ✔ ममत्व
3. ✘ माँ
4. ✘ शत्रु

Question Number : 87 Question Id : 50964713550 Question Type : MCQ Option Shuffling : Yes Display Question Number : Yes
Single Line Question Option : No Option Orientation : Vertical

Correct Marks : 1 Wrong Marks : 0.25

निम्नलिखित प्रश्न में, चार विकल्पों में से, उस विकल्प का चयन करे जो रेखांकित शब्द के लिए उचित विकल्प हो

बच्चे को बिलखता देख कर सीमा का _____ जाग उठा।

Options :

1. ✘ ममता
2. ✔ ममत्व
3. ✘ माँ
4. ✘ शत्रु

Question Number : 88 Question Id : 50964713551 Question Type : MCQ Option Shuffling : Yes Display Question Number : Yes
Single Line Question Option : No Option Orientation : Vertical

Correct Marks : 1 Wrong Marks : 0.25

निम्नलिखित प्रश्न में, चार विकल्पों में से, उस सही विकल्प का चयन करें जो वाक्यांशों के लिए एक शब्द का विकल्प हो।

जो सबसे आगे रहता हो।

Options :

1. ✘ अनुगामी
2. ✘ अगम्य
3. ✔ अग्रणी
4. ✘ अल्पज्ञ

Question Number : 88 Question Id : 50964713551 Question Type : MCQ Option Shuffling : Yes Display Question Number : Yes
Single Line Question Option : No Option Orientation : Vertical

Correct Marks : 1 Wrong Marks : 0.25

निम्नलिखित प्रश्न में, चार विकल्पों में से, उस सही विकल्प का चयन करें जो वाक्यांशों के लिए एक शब्द का विकल्प हो।

जो सबसे आगे रहता हो।

Options :

1. ✘ अनुगामी
2. ✘ अगम्य
3. ✔ अग्रणी
4. ✘ अल्पज्ञ

Question Number : 89 Question Id : 50964713552 Question Type : MCQ Option Shuffling : Yes Display Question Number : Yes
Single Line Question Option : No Option Orientation : Vertical

Correct Marks : 1 Wrong Marks : 0.25

निम्नलिखित प्रश्न में, चार विकल्पों में से, उस सही विकल्प का चयन करें जो रेखांकित शब्द का निर्देशानुसार सही विकल्प हो।

नौकरानी _____ सफाई की जाती है। (कर्मवाच्य)

Options :

1. ✘ ने
2. ✔ द्वारा
3. ✘ में
4. ✘ के

Question Number : 89 Question Id : 50964713552 Question Type : MCQ Option Shuffling : Yes Display Question Number : Yes
Single Line Question Option : No Option Orientation : Vertical

Correct Marks : 1 Wrong Marks : 0.25

निम्नलिखित प्रश्न में, चार विकल्पों में से, उस सही विकल्प का चयन करें जो रेखांकित शब्द का निर्देशानुसार सही विकल्प हो।

नौकरानी _____ सफाई की जाती है। (कर्मवाच्य)

Options :

1. ✖ ने
2. ✔ द्वारा
3. ✖ में
4. ✖ के

Question Number : 90 Question Id : 50964713553 Question Type : MCQ Option Shuffling : Yes Display Question Number : Yes
Single Line Question Option : No Option Orientation : Vertical

Correct Marks : 1 Wrong Marks : 0.25

निम्नलिखित प्रश्न में, चार विकल्पों में से, उस विकल्प का चयन करें जो शुद्ध वाक्य का सबसे अच्छा विकल्प है।

Options :

1. ✔ मैंने आज नई कमीज़ पहनी है।
2. ✖ मैंने आज नई कमीज़ डाली।
3. ✖ मैंने डाली आज नई कमीज़।
4. ✖ मैंने आज कमीज़ नई पहनी।

Question Number : 90 Question Id : 50964713553 Question Type : MCQ Option Shuffling : Yes Display Question Number : Yes
Single Line Question Option : No Option Orientation : Vertical

Correct Marks : 1 Wrong Marks : 0.25

निम्नलिखित प्रश्न में, चार विकल्पों में से, उस विकल्प का चयन करें जो शुद्ध वाक्य का सबसे अच्छा विकल्प है।

Options :

1. ✔ मैंने आज नई कमीज़ पहनी है।
2. ✖ मैंने आज नई कमीज़ डाली।
3. ✖ मैंने डाली आज नई कमीज़।
4. ✖ मैंने आज कमीज़ नई पहनी।

Question Number : 91 Question Id : 50964713554 Question Type : MCQ Option Shuffling : Yes Display Question Number : Yes
Single Line Question Option : No Option Orientation : Vertical

Correct Marks : 1 Wrong Marks : 0.25

निम्नलिखित प्रश्न में, चार विकल्पों में से, उस विकल्प का चयन करें जो शुद्ध वाक्य का सबसे अच्छा विकल्प है।

Options :

1. ✖ वे अब झगड़ा करेंगे, ऐसी आशा है।
2. ✖ आशा है झगड़ा करेंगे अब वे।
3. ✔ वे अब झगड़ा करेंगे ऐसी संभावना है।
4. ✖ वे झगड़ा करेंगे अब ऐसी लगता है।

Question Number : 91 Question Id : 50964713554 Question Type : MCQ Option Shuffling : Yes Display Question Number : Yes
Single Line Question Option : No Option Orientation : Vertical

Correct Marks : 1 Wrong Marks : 0.25

निम्नलिखित प्रश्न में, चार विकल्पों में से, उस विकल्प का चयन करें जो शुद्ध वाक्य का सबसे अच्छा विकल्प है।

Options :

1. ✖ वे अब झगड़ा करेंगे, ऐसी आशा है।
2. ✖ आशा है झगड़ा करेंगे अब वे।
3. ✔ वे अब झगड़ा करेंगे ऐसी संभावना है।
4. ✖ वे झगड़ा करेंगे अब ऐसी लगता है।

Question Number : 92 Question Id : 50964713555 Question Type : MCQ Option Shuffling : Yes Display Question Number : Yes
Single Line Question Option : No Option Orientation : Vertical

Correct Marks : 1 Wrong Marks : 0.25

निम्नलिखित प्रश्न में, चार विकल्पों में से, उस विकल्प का चयन करें जो शुद्ध वाक्य का सबसे अच्छा विकल्प है।

Options :

- ✘ तुम्हारा नाम को हम भूल नहीं पायेगे
- ✔ तुम्हारे नाम को हम भूल नहीं पाएँगे
- ✘ हम नहीं पाएँगे भुला नाम तुमका
- ✘ तुम्हारा नाम हमको भूल नहीं पाएँगे

Question Number : 92 Question Id : 50964713555 Question Type : MCQ Option Shuffling : Yes Display Question Number : Yes
Single Line Question Option : No Option Orientation : Vertical

Correct Marks : 1 Wrong Marks : 0.25

निम्नलिखित प्रश्न में, चार विकल्पों में से, उस विकल्प का चयन करें जो शुद्ध वाक्य का सबसे अच्छा विकल्प है।

Options :

- ✘ तुम्हारा नाम को हम भूल नहीं पायेगे
- ✔ तुम्हारे नाम को हम भूल नहीं पाएँगे
- ✘ हम नहीं पाएँगे भुला नाम तुमका
- ✘ तुम्हारा नाम हमको भूल नहीं पाएँगे

Question Number : 93 Question Id : 50964713556 Question Type : MCQ Option Shuffling : Yes Display Question Number : Yes
Single Line Question Option : No Option Orientation : Vertical

Correct Marks : 1 Wrong Marks : 0.25

निम्नलिखित प्रश्न में, चार विकल्पों में से, उस विकल्प का चयन करें जो दिए गए मुहावरे का सही अर्थ वाला विकल्प है।

हाथी का बोझ हाथी ही उठाता है।

Options :

- ✘ जिसका जो काम वही न करे।
- ✔ बड़ा काम बड़े ही कर सकते हैं।
- ✘ शक्तिशाली होना।
- ✘ पहलवान से पंगा न लेना।

Question Number : 93 Question Id : 50964713556 Question Type : MCQ Option Shuffling : Yes Display Question Number : Yes
Single Line Question Option : No Option Orientation : Vertical

Correct Marks : 1 Wrong Marks : 0.25

निम्नलिखित प्रश्न में, चार विकल्पों में से, उस विकल्प का चयन करें जो दिए गए मुहावरे का सही अर्थ वाला विकल्प है।

हाथी का बोझ हाथी ही उठाता है।

Options :

- ✘ जिसका जो काम वही न करे।
- ✔ बड़ा काम बड़े ही कर सकते हैं।
- ✘ शक्तिशाली होना।
- ✘ पहलवान से पंगा न लेना।

Question Number : 94 Question Id : 50964713557 Question Type : MCQ Option Shuffling : Yes Display Question Number : Yes
Single Line Question Option : No Option Orientation : Vertical

Correct Marks : 1 Wrong Marks : 0.25

निम्नलिखित प्रश्न में, चार विकल्पों में से, उस विकल्प का चयन करें जो दिए गए मुहावरे का सही अर्थ वाला विकल्प है।

निन्यानबे के फेर में पड़ना।

Options :

- ✔ सदैव रूपया बटोरने के चक्कर में पड़ना।
- ✘ गिनती पूरी करना।

3. ✘ पूरी गिनती न आना
4. ✘ परेशां होना

Question Number : 94 Question Id : 50964713557 Question Type : MCQ Option Shuffling : Yes Display Question Number : Yes
Single Line Question Option : No Option Orientation : Vertical

Correct Marks : 1 Wrong Marks : 0.25

निम्नलिखित प्रश्न में, चार विकल्पों में से, उस विकल्प का चयन करें जो दिए गए मुहावरे का सही अर्थ वाला विकल्प है

निन्यानबे के फेर में पड़ना

Options :

1. ✔ सदैव रूपया बटोरने के चक्कर में पड़ना
2. ✘ गिनती पूरी करना
3. ✘ पूरी गिनती न आना
4. ✘ परेशां होना

Question Number : 95 Question Id : 50964713558 Question Type : MCQ Option Shuffling : Yes Display Question Number : Yes
Single Line Question Option : No Option Orientation : Vertical

Correct Marks : 1 Wrong Marks : 0.25

निम्नलिखित प्रश्न में, चार विकल्पों में से, उस विकल्प का चयन करें जो विराम चिह्न युक्त वाक्य का सही विकल्प हो

Options :

1. ✔ मैंने सोचा , 'मैं प्रेमचंद अवश्य पढ़ूंगी'
2. ✘ मैंने सोचा 'मैं प्रेमचंद अवश्य पढ़ूंगी'
3. ✘ मैंने, 'मैं प्रेमचंद अवश्य पढ़ूंगी'
4. ✘ मैंने सोचा - 'मैं प्रेमचंद अवश्य पढ़ूंगी'

Question Number : 95 Question Id : 50964713558 Question Type : MCQ Option Shuffling : Yes Display Question Number : Yes
Single Line Question Option : No Option Orientation : Vertical

Correct Marks : 1 Wrong Marks : 0.25

निम्नलिखित प्रश्न में, चार विकल्पों में से, उस विकल्प का चयन करें जो विराम चिह्न युक्त वाक्य का सही विकल्प हो

Options :

1. ✔ मैंने सोचा , 'मैं प्रेमचंद अवश्य पढ़ूंगी'
2. ✘ मैंने सोचा 'मैं प्रेमचंद अवश्य पढ़ूंगी'
3. ✘ मैंने, 'मैं प्रेमचंद अवश्य पढ़ूंगी'
4. ✘ मैंने सोचा - 'मैं प्रेमचंद अवश्य पढ़ूंगी'

Sub-Section Number:	2
Sub-Section Id:	509647726
Question Shuffling Allowed :	Yes

Question Id : 50964713559 Question Type : COMPREHENSION Sub Question Shuffling Allowed : Yes Group Comprehension
Questions : No

Question Numbers : (96 to 100)

Question Label : Comprehension

नीचे दिए गये गद्यांश के बाद 5 प्रश्न दिए गये हैं। इस गद्यांश को ध्यानपूर्वक पढ़ें और चार विकल्पों में से प्रत्येक प्रश्न का सर्वोत्तम उत्तर चुनें:

गांधीजी ने दक्षिण अफ्रीका में प्रवासी भारतीयों को मानव-मात्र की समानता और स्वतंत्रता के प्रति जागरूक बनाने का प्रयत्न किया। इसी के साथ उन्होंने भारतीयों के नैतिक पक्ष को जगाने और सुसंस्कृत बनाने के प्रयत्न भी किए। गांधी जी ने ऐसा क्यों किया? इसलिए कि वे मानव-मानव के बीच काले-गोरे, या ऊँच-नीच का भेद ही मिटाना पर्याप्त नहीं समझते थे, वरन उनके बीच एक मानवीय स्वभाविक स्नेह और हार्दिक सहयोग का संबंध भी स्थापित करना चाहते थे। इसके बाद जब वे भारत आए, तब उन्होंने इस प्रयोग को एक बड़ा और व्यापक रूप दिया। विदेशी शासन के अन्याय-अनीति के विरोध में उन्होंने बड़ा सामूहिक प्रतिरोध संगठित किया। पर इसमें उन्होंने सबसे बड़ा ध्यान इस बात का रखा कि इस प्रतिरोध में कहीं भी कटुता, प्रतिशोध की भावना अथवा कोई भी ऐसी अनैतिक बात न हो जिसके लिए विश्व-मंच पर भारत का माथा नीचा हो।

Sub questions

Question Number : 96 Question Id : 50964713560 Question Type : MCQ Option Shuffling : Yes Display Question Number : Yes
Single Line Question Option : No Option Orientation : Vertical

Correct Marks : 1 Wrong Marks : 0.25

गांधीजी दक्षिण अफ्रीका में लोगों के लिए क्यों कार्य किया?

Options :

1. ✘ प्रवासी भारतीयों को ले जाने के लिए
2. ✔ लोगों के बीच का भेद मिटाने के लिए
3. ✘ अपना स्थान वहाँ बनाने के लिए
4. ✘ दक्षिण अफ्रीका में बदलाव लेने के लिए

Question Number : 97 Question Id : 50964713561 Question Type : MCQ Option Shuffling : Yes Display Question Number : Yes
Single Line Question Option : No Option Orientation : Vertical

Correct Marks : 1 Wrong Marks : 0.25

गांधीजी भारतीयों और अफ्रीका के लोगों के बीच कैसा संबंध बनाना चाहते थे?

Options :

1. ✘ अलगाव की भावना
2. ✘ अहिंसा के प्रति लगाव
3. ✘ पारिवारिक संबंध
4. ✔ सहज प्रेम और सहयोग

Question Number : 98 Question Id : 50964713562 Question Type : MCQ Option Shuffling : Yes Display Question Number : Yes
Single Line Question Option : No Option Orientation : Vertical

Correct Marks : 1 Wrong Marks : 0.25

प्रतिरोध के आन्दोलन में गाँधी जी ने किस बात का ध्यान रखा?

Options :

1. ✔ कोई अनैतिक बात न हो
2. ✘ कोई इससे लाभान्वित न हो
3. ✘ ज्यादा समय न लगे
4. ✘ कोई परेशानी न हो

Question Number : 99 Question Id : 50964713563 Question Type : MCQ Option Shuffling : Yes Display Question Number : Yes
Single Line Question Option : No Option Orientation : Vertical

Correct Marks : 1 Wrong Marks : 0.25

इनमें से कौन - सा सौहार्द का पर्यायवाची नहीं है?

Options :

1. ✘ प्रेम
2. ✘ मित्रता
3. ✘ दोस्ती
4. ✔ अपकारी

Question Number : 100 Question Id : 50964713564 Question Type : MCQ Option Shuffling : Yes Display Question Number : Yes
Single Line Question Option : No Option Orientation : Vertical

Correct Marks : 1 Wrong Marks : 0.25

इस अनुच्छेद का कोई उपयुक्त शीर्षक:

Options :

- ✘ अफ्रीका और गाँधी जी
- ✘ प्रवासी भारतीय और गाँधी जी
- ✔ गाँधी जी की नैतिकता
- ✘ विदेशी शासन का प्रभाव

Question Id : 50964713559 Question Type : COMPREHENSION Sub Question Shuffling Allowed : Yes Group Comprehension
Questions : No

Question Numbers : (96 to 100)

Question Label : Comprehension

नीचे दिए गये गद्यांश के बाद 5 प्रश्न दिए गये हैं। इस गद्यांश को ध्यानपूर्वक पढ़ें और चार विकल्पों में से प्रत्येक प्रश्न का सर्वोत्तम उत्तर चुनें:

गांधीजी ने दक्षिण अफ्रीका में प्रवासी भारतीयों को मानव-मात्र की समानता और स्वतंत्रता के प्रति जागरूक बनाने का प्रयत्न किया। इसी के साथ उन्होंने भारतीयों के नैतिक पक्ष को जगाने और सुसंस्कृत बनाने के प्रयत्न भी किए। गांधी जी ने ऐसा क्यों किया? इसलिए कि वे मानव-मानव के बीच काले-गोरे, या ऊँच-नीच का भेद ही मिटाना पर्याप्त नहीं समझते थे, वरन उनके बीच एक मानवीय स्वभाविक स्नेह और हार्दिक सहयोग का संबंध भी स्थापित करना चाहते थे। इसके बाद जब वे भारत आए, तब उन्होंने इस प्रयोग को एक बड़ा और व्यापक रूप दिया। विदेशी शासन के अन्याय-अनीति के विरोध में उन्होंने बड़ा सामूहिक प्रतिरोध संगठित किया। पर इसमें उन्होंने सबसे बड़ा ध्यान इस बात का रखा कि इस प्रतिरोध में कहीं भी कटुता, प्रतिशोध की भावना अथवा कोई भी ऐसी अनैतिक बात न हो जिसके लिए विश्व-मंच पर भारत का माथा नीचा हो।

Sub questions

Question Number : 96 Question Id : 50964713560 Question Type : MCQ Option Shuffling : Yes Display Question Number : Yes
Single Line Question Option : No Option Orientation : Vertical

Correct Marks : 1 Wrong Marks : 0.25

गांधीजी दक्षिण अफ्रीका में लोगों के लिए क्यों कार्य किया?

Options :

- ✘ प्रवासी भारतीयों को ले जाने के लिए
- ✔ लोगों के बीच का भेद मिटाने के लिए
- ✘ अपना स्थान वहाँ बनाने के लिए
- ✘ दक्षिण अफ्रीका में बदलाव लेने के लिए

Question Number : 97 Question Id : 50964713561 Question Type : MCQ Option Shuffling : Yes Display Question Number : Yes
Single Line Question Option : No Option Orientation : Vertical

Correct Marks : 1 Wrong Marks : 0.25

गांधीजी भारतीयों और अफ्रीका के लोगों के बीच कैसा संबंध बनाना चाहते थे?

Options :

- ✘ अलगाव की भावना
- ✘ अहिंसा के प्रति लगाव
- ✘ पारिवारिक संबंध
- ✔ सहज प्रेम और सहयोग

Question Number : 98 Question Id : 50964713562 Question Type : MCQ Option Shuffling : Yes Display Question Number : Yes
Single Line Question Option : No Option Orientation : Vertical

Correct Marks : 1 Wrong Marks : 0.25

प्रतिरोध के आन्दोलन में गाँधी जी ने किस बात का ध्यान रखा?

Options :

- ✔ कोई अनैतिक बात न हो
- ✘ कोई इससे लाभान्वित न हो

3. ✘ ज्यादा समय न लगे
4. ✘ कोई परेशानी न हो

Question Number : 99 Question Id : 50964713563 Question Type : MCQ Option Shuffling : Yes Display Question Number : Yes
Single Line Question Option : No Option Orientation : Vertical

Correct Marks : 1 Wrong Marks : 0.25

इनमें से कौन - सा सौहार्द का पर्यायवाची नहीं है?

Options :

1. ✘ प्रेम
2. ✘ मित्रता
3. ✘ दोस्ती
4. ✔ अपकारी

Question Number : 100 Question Id : 50964713564 Question Type : MCQ Option Shuffling : Yes Display Question Number : Yes
Single Line Question Option : No Option Orientation : Vertical

Correct Marks : 1 Wrong Marks : 0.25

इस अनुच्छेद का कोई उपयुक्त शीर्षक:

Options :

1. ✘ अफ्रीका और गाँधी जी
2. ✘ प्रवासी भारतीय और गाँधी जी
3. ✔ गाँधी जी की नैतिकता
4. ✘ विदेशी शासन का प्रभाव

Discipline1

Group Number :	6
Group Id :	509647377
Group Maximum Duration :	0
Group Minimum Duration :	0
Revisit allowed for view? :	No
Revisit allowed for edit? :	No
Break time:	0
Group Marks:	20
Revisit allowed for group Instructions? :	Yes
Maximum Instruction Time:	0
Minimum Instruction Time:	0

Discipline1

Section Id :	509647537
Section Number :	1
Section type :	Online
Mandatory or Optional:	Mandatory
Number of Questions:	20
Number of Questions to be attempted:	20
Section Marks:	20
Display Number Panel:	Yes
Group All Questions:	No

Sub-Section Number: 1
Sub-Section Id: 509647727
Question Shuffling Allowed : Yes

Question Number : 101 Question Id : 50964713565 Question Type : MCQ Option Shuffling : Yes Display Question Number : Yes
Single Line Question Option : No Option Orientation : Vertical
Correct Marks : 1 Wrong Marks : 0.25

The illness characterised by rapid onset of symptoms and that lasts for a short duration is known as a/an:

Options :

1. ✘ chronic illness
2. ✔ acute illness
3. ✘ terminal illness
4. ✘ age-related illness

Question Number : 101 Question Id : 50964713565 Question Type : MCQ Option Shuffling : Yes Display Question Number : Yes
Single Line Question Option : No Option Orientation : Vertical
Correct Marks : 1 Wrong Marks : 0.25

ऐसा रोग जो लक्षणों की तीव्र शुरुआत द्वारा अभिलक्षित है, और जो एक छोटी अवधि के लिए रहता है, उसे _____ कहा जाता है।

Options :

1. ✘ पुराना रोग
2. ✔ गंभीर रोग
3. ✘ लाइलाज रोग
4. ✘ उम्र से संबंधित रोग

Question Number : 102 Question Id : 50964713566 Question Type : MCQ Option Shuffling : Yes Display Question Number : Yes
Single Line Question Option : No Option Orientation : Vertical
Correct Marks : 1 Wrong Marks : 0.25

Which of the following ethical principles refers to 'keeping one's promises'?

Options :

1. ✘ Beneficence
2. ✘ Veracity
3. ✔ Fidelity

4. ✘ Non-maleficence

Question Number : 102 Question Id : 50964713566 Question Type : MCQ Option Shuffling : Yes Display Question Number : Yes
Single Line Question Option : No Option Orientation : Vertical

Correct Marks : 1 Wrong Marks : 0.25

'अपना वादा पूरा करना' इनमें से कौन से नैतिक सिद्धांतों को संदर्भित करता है?

Options :

1. ✘ एहसान
2. ✘ सच्चाई
3. ✔ वफादारी
4. ✘ गैर हानिकारक

Question Number : 103 Question Id : 50964713567 Question Type : MCQ Option Shuffling : Yes Display Question Number : Yes
Single Line Question Option : No Option Orientation : Vertical

Correct Marks : 1 Wrong Marks : 0.25

Which of the following shows that the nurse is listening to the client?

Options :

1. ✘ Turning away from the patient
2. ✔ Nodding and making eye contact
3. ✘ Looking out of the window
4. ✘ Checking the patient's case reports

Question Number : 103 Question Id : 50964713567 Question Type : MCQ Option Shuffling : Yes Display Question Number : Yes
Single Line Question Option : No Option Orientation : Vertical

Correct Marks : 1 Wrong Marks : 0.25

निम्नलिखित में से कौन सा विकल्प यह दर्शाता है कि नर्स मरीज़ की बात सुन रही है?

Options :

1. ✘ मरीज़ से दूर होना।
2. ✔ सिर हिलाते हुए आंखों से संपर्क करना।
3. ✘ खिड़की से बाहर देखना।

4. ✘ मरीज के केस रिपोर्ट की जाँच करना।

Question Number : 104 Question Id : 50964713568 Question Type : MCQ Option Shuffling : Yes Display Question Number : Yes
Single Line Question Option : No Option Orientation : Vertical

Correct Marks : 1 Wrong Marks : 0.25

A nurse who is taking care of a client in a medical unit, notices that the client begins to breathe rapidly. Which action, by the nurse, reflects critical thinking?

Options :

1. ✘ Calling the emergency team
2. ✘ Notifying the physician
3. ✔ Obtaining vital signs and oxygen saturation
4. ✘ Requesting a chest X-ray

Question Number : 104 Question Id : 50964713568 Question Type : MCQ Option Shuffling : Yes Display Question Number : Yes
Single Line Question Option : No Option Orientation : Vertical

Correct Marks : 1 Wrong Marks : 0.25

एक नर्स जो एक चिकित्सा इकाई में एक मरीज की देखभाल कर रही है, देखती है कि मरीज तेजी से सांस लेना शुरू कर देता है। नर्स द्वारा कौन सी क्रिया महत्वपूर्ण सोच को दर्शाती है?

Options :

1. ✘ इमरजेंसी टीम को फोन किया गया।
2. ✘ चिकित्सक को सूचित किया।
3. ✔ महत्वपूर्ण संकेत और ऑक्सीजन संतृप्ति प्राप्त कर लेना।
4. ✘ छाती के एक्स-रे की बिनती करना।

Question Number : 105 Question Id : 50964713569 Question Type : MCQ Option Shuffling : Yes Display Question Number : Yes
Single Line Question Option : No Option Orientation : Vertical

Correct Marks : 1 Wrong Marks : 0.25

If a patient's blood pressure is 160/100, then his pulse pressure is:

Options :

1. ✘ 96
2. ✔ 60
3. ✘ 150

4. ✖ 242

Question Number : 105 Question Id : 50964713569 Question Type : MCQ Option Shuffling : Yes Display Question Number : Yes
Single Line Question Option : No Option Orientation : Vertical

Correct Marks : 1 Wrong Marks : 0.25

यदि किसी मरीज का रक्तचाप 160/100 है, तो उसका नाड़ी दबाव है:

Options :

1. ✖ 96

2. ✔ 60

3. ✖ 150

4. ✖ 242

Question Number : 106 Question Id : 50964713570 Question Type : MCQ Option Shuffling : Yes Display Question Number : Yes
Single Line Question Option : No Option Orientation : Vertical

Correct Marks : 1 Wrong Marks : 0.25

Resonance is best described as:

Options :

1. ✔ hollow sounds created by air filled lungs

2. ✖ short high pitched thudding

3. ✖ moderately loud sounds with musical quality

4. ✖ drum like sounds

Question Number : 106 Question Id : 50964713570 Question Type : MCQ Option Shuffling : Yes Display Question Number : Yes
Single Line Question Option : No Option Orientation : Vertical

Correct Marks : 1 Wrong Marks : 0.25

अनुनाद का सबसे अच्छा वर्णन है:

Options :

1. ✔ खोखली आवाजें हवा से भरे फेफड़ों के द्वारा बनाए गए।

2. ✖ छोटी ऊंची कठोर ध्वनि।

3. ✖ संगीत की गुणवत्ता के साथ, मध्यम तेज आवाज।

4. ✘ ढोल जैसे ध्वनि।

Question Number : 107 Question Id : 50964713571 Question Type : MCQ Option Shuffling : Yes Display Question Number : Yes
Single Line Question Option : No Option Orientation : Vertical
Correct Marks : 1 Wrong Marks : 0.25

Which technique is used to palpate lymph nodes?

Options :

1. ✘ Move the flat of all four fingers in a vertical motion.
2. ✘ Use the back of the hands and feel the deformities.
3. ✔ Move the pads of two fingers in a circular motion.
4. ✘ Compress the nodes between the index fingers of both hands.

Question Number : 107 Question Id : 50964713571 Question Type : MCQ Option Shuffling : Yes Display Question Number : Yes
Single Line Question Option : No Option Orientation : Vertical
Correct Marks : 1 Wrong Marks : 0.25

लिम्फ नोड्स टटोलने के लिए कौन सी तकनीक का इस्तेमाल किया जाता है?

Options :

1. ✘ एक ऊर्ध्वाधर गति में सभी चार उंगलियों के फ्लैट को स्थानांतरित करें।
2. ✘ हाथों के पीछे का उपयोग करते हुए विकृति को महसूस करें।
3. ✔ गोलाकार गति में दो उंगलियों के पैड को घुमाएं।
4. ✘ दोनों हाथों की तर्जनी के बीच के नोड्स को संपीड़ित कीजिये।

Question Number : 108 Question Id : 50964713572 Question Type : MCQ Option Shuffling : Yes Display Question Number : Yes
Single Line Question Option : No Option Orientation : Vertical
Correct Marks : 1 Wrong Marks : 0.25

What is the recommended concentration of potassium permanganate used in oral care?

Options :

1. ✘ 1 : 10000
2. ✘ 1 : 6000
3. ✔ 1 : 5000

4. ✘ 1 : 4000

Question Number : 108 Question Id : 50964713572 Question Type : MCQ Option Shuffling : Yes Display Question Number : Yes
Single Line Question Option : No Option Orientation : Vertical

Correct Marks : 1 Wrong Marks : 0.25

मुंह की देखभाल में उपयोग किए गए पोटेशियम परमैंगनेट की अनुशंसित सांद्रता क्या है?

Options :

1. ✘ 1 : 10000

2. ✘ 1 : 6000

3. ✔ 1 : 5000

4. ✘ 1 : 4000

Question Number : 109 Question Id : 50964713573 Question Type : MCQ Option Shuffling : Yes Display Question Number : Yes
Single Line Question Option : No Option Orientation : Vertical

Correct Marks : 1 Wrong Marks : 0.25

What is the first aid for a nose bleed?

Options :

1. ✘ Make the client lean backward and breathe through the mouth.

2. ✘ Make the client lie down on a flat surface.

3. ✘ Encourage the client to drink water and sniff.

4. ✔ Make the client lean forward and breathe through the mouth.

Question Number : 109 Question Id : 50964713573 Question Type : MCQ Option Shuffling : Yes Display Question Number : Yes
Single Line Question Option : No Option Orientation : Vertical

Correct Marks : 1 Wrong Marks : 0.25

नाक से खून बहने का प्राथमिक उपचार क्या है?

Options :

1. ✘ मरीज़ को पीछे की ओर झुकाएं और मुंह से सांस लेने को कहें।

2. ✘ मरीज़ को सपाट सतह पर लेटा दें।

3. ✘ मरीज़ को पानी पीने और सांस खींचने के लिए प्रोत्साहित करें।

4. ✓ मरीज़ को आगे की ओर झुकाएं और मुंह से सांस लेने को कहें।

Question Number : 110 Question Id : 50964713574 Question Type : MCQ Option Shuffling : Yes Display Question Number : Yes
Single Line Question Option : No Option Orientation : Vertical

Correct Marks : 1 Wrong Marks : 0.25

2 tablespoons are equivalent to how many millilitres (ml)?

Options :

1. ✓ 30 ml

2. ✗ 25 ml

3. ✗ 40 ml

4. ✗ 10 ml

Question Number : 110 Question Id : 50964713574 Question Type : MCQ Option Shuffling : Yes Display Question Number : Yes
Single Line Question Option : No Option Orientation : Vertical

Correct Marks : 1 Wrong Marks : 0.25

2 बड़े चम्मच कितने मिलीलीटर (ml) के बराबर होते हैं?

Options :

1. ✓ 30 ml

2. ✗ 25 ml

3. ✗ 40 ml

4. ✗ 10 ml

Question Number : 111 Question Id : 50964713575 Question Type : MCQ Option Shuffling : Yes Display Question Number : Yes
Single Line Question Option : No Option Orientation : Vertical

Correct Marks : 1 Wrong Marks : 0.25

If 500 ml of 5% dextrose is to be infused in 5 hours, then how many drops per minute should be infused? (drop factor = 15 drops per ml)

Options :

1. ✗ 20

2. ✓ 25

3. ✗ 30

4. ✗ 42

Question Number : 111 Question Id : 50964713575 Question Type : MCQ Option Shuffling : Yes Display Question Number : Yes
Single Line Question Option : No Option Orientation : Vertical

Correct Marks : 1 Wrong Marks : 0.25

यदि 5 घंटे में 5% डेक्सट्रोज के 500 मिलीलीटर उड़ेला जाना है, तो प्रति मिनट कितनी बूंदों को उड़ेला जाना चाहिए?
(ड्रॉप फैक्टर = 15 बूँदें प्रति मिली)

Options :

1. ✘ 20

2. ✔ 25

3. ✘ 30

4. ✘ 42

Question Number : 112 Question Id : 50964713576 Question Type : MCQ Option Shuffling : Yes Display Question Number : Yes
Single Line Question Option : No Option Orientation : Vertical

Correct Marks : 1 Wrong Marks : 0.25

Z-track intramuscular technique is used in administering which kind of medication?

Options :

1. ✔ Dark coloured medication

2. ✘ Medication more than 5 ml

3. ✘ Medication that have a long absorption time

4. ✘ Long-term use medication

Question Number : 112 Question Id : 50964713576 Question Type : MCQ Option Shuffling : Yes Display Question Number : Yes
Single Line Question Option : No Option Orientation : Vertical

Correct Marks : 1 Wrong Marks : 0.25

Z-ट्रैक इंट्रामस्क्युलर तकनीक का उपयोग किस तरह की दवा को देने में किया जाता है?

Options :

1. ✔ गहरे रंग की दवा से इलाज़।

2. ✘ 5 ml से अधिक दवा।

3. ✘ वह दवा जिसका एक लंबा अवशोषण का समय है।

4. ✘ लंबे समय तक प्रयोग वाली दवा।

Question Number : 113 Question Id : 50964713577 Question Type : MCQ Option Shuffling : Yes Display Question Number : Yes
Single Line Question Option : No Option Orientation : Vertical

Correct Marks : 1 Wrong Marks : 0.25

If a woman's weight is 55 kg and height is 1.65 m, then what is her Body Mass Index (BMI)?

Options :

1. ✘ 18

2. ✘ 19

3. ✔ 20

4. ✘ 21

Question Number : 113 Question Id : 50964713577 Question Type : MCQ Option Shuffling : Yes Display Question Number : Yes
Single Line Question Option : No Option Orientation : Vertical

Correct Marks : 1 Wrong Marks : 0.25

किसी महिला का यदि वजन 55 kg है और ऊंचाई 1.65 m है, तो उसका बॉडी मास इंडेक्स (बीएमआई) क्या होगा?

Options :

1. ✘ 18

2. ✘ 19

3. ✔ 20

4. ✘ 21

Question Number : 114 Question Id : 50964713578 Question Type : MCQ Option Shuffling : Yes Display Question Number : Yes
Single Line Question Option : No Option Orientation : Vertical

Correct Marks : 1 Wrong Marks : 0.25

Identify a water soluble vitamin from the following options.

Options :

1. ✘ Retinol

2. ✘ Calciferol

3. ✔ Folate

4. ✘ Tocopherol

Question Number : 114 Question Id : 50964713578 Question Type : MCQ Option Shuffling : Yes Display Question Number : Yes
Single Line Question Option : No Option Orientation : Vertical

Correct Marks : 1 Wrong Marks : 0.25

निम्नलिखित विकल्पों में से एक पानी में घुलने वाली विटामिन की पहचान करें।

Options :

1. ✘ रेटिनोल
2. ✘ कैल्सिफैरोल
3. ✔ फोलेट
4. ✘ टोकोफैरोल

Question Number : 115 Question Id : 50964713579 Question Type : MCQ Option Shuffling : Yes Display Question Number : Yes
Single Line Question Option : No Option Orientation : Vertical

Correct Marks : 1 Wrong Marks : 0.25

Which of the following is NOT true of Kwashiorkor?

Options :

1. ✘ Silky, easily pulled hair
2. ✔ Monkey face
3. ✘ Poor appetite
4. ✘ Oedema present on the lower limbs and arms

Question Number : 115 Question Id : 50964713579 Question Type : MCQ Option Shuffling : Yes Display Question Number : Yes
Single Line Question Option : No Option Orientation : Vertical

Correct Marks : 1 Wrong Marks : 0.25

निम्नलिखित में से कौन सा क्वाशिओकोर के बारे में सच नहीं है?

Options :

1. ✘ रेशमी, आसानी से खींचे जाने वाले बाल
2. ✔ बंदर जैसा चेहरा
3. ✘ कम खाना
4. ✘ निचले अंगों और भुजाओं पर पाए गए एडिमा

Question Number : 116 Question Id : 50964713580 Question Type : MCQ Option Shuffling : Yes Display Question Number : Yes
Single Line Question Option : No Option Orientation : Vertical

Correct Marks : 1 Wrong Marks : 0.25

Which of the following polysaccharides is NOT digested by human enzymes and is a major constituent of dietary fiber?

Options :

1. ✘ Starch
2. ✔ Cellulose
3. ✘ Fructose
4. ✘ Dextran

Question Number : 116 Question Id : 50964713580 Question Type : MCQ Option Shuffling : Yes Display Question Number : Yes
Single Line Question Option : No Option Orientation : Vertical

Correct Marks : 1 Wrong Marks : 0.25

निम्नलिखित में से कौन सा पॉलीसेकेराइड एंजाइम मानव एंजाइमों द्वारा पचता नहीं है और वह आहार में फाइबर का एक प्रमुख घटक है?

Options :

1. ✘ स्टार्च
2. ✔ सेलूलोज
3. ✘ फ्रुक्टोज
4. ✘ डेक्सट्रान

Question Number : 117 Question Id : 50964713581 Question Type : MCQ Option Shuffling : Yes Display Question Number : Yes
Single Line Question Option : No Option Orientation : Vertical

Correct Marks : 1 Wrong Marks : 0.25

The pyrimidine base present in DNA is:

Options :

1. ✘ uracil
2. ✔ thymine
3. ✘ adenosine
4. ✘ guanine

Question Number : 117 Question Id : 50964713581 Question Type : MCQ Option Shuffling : Yes Display Question Number : Yes
Single Line Question Option : No Option Orientation : Vertical

Correct Marks : 1 Wrong Marks : 0.25

DNA में मौजूद पिरिमिडीन आधार है:

Options :

1. ✘ यूरासिल
2. ✔ थिमाइन
3. ✘ एडेनोसाइन
4. ✘ गुआनिन

Question Number : 118 Question Id : 50964713582 Question Type : MCQ Option Shuffling : Yes Display Question Number : Yes
Single Line Question Option : No Option Orientation : Vertical

Correct Marks : 1 Wrong Marks : 0.25

Who used the term 'psychoanalysis' to describe the theory of mind and system of therapy?

Options :

1. ✘ Ivan Pavlov
2. ✘ William James
3. ✔ Sigmund Freud
4. ✘ Wilhelm Wundt

Question Number : 118 Question Id : 50964713582 Question Type : MCQ Option Shuffling : Yes Display Question Number : Yes
Single Line Question Option : No Option Orientation : Vertical

Correct Marks : 1 Wrong Marks : 0.25

किसने मन के सिद्धांत और चिकित्सा की प्रणाली का वर्णन करने के लिए 'मनोविश्लेषण' शब्द का प्रयोग किया?

Options :

1. ✘ इवान पावलोव
2. ✘ विलियम जेम्स
3. ✔ सिगमंड फ्रायड
4. ✘ विल्हेम वुंड्ट

Question Number : 119 Question Id : 50964713583 Question Type : MCQ Option Shuffling : Yes Display Question Number : Yes
Single Line Question Option : No Option Orientation : Vertical

Correct Marks : 1 Wrong Marks : 0.25

A clinical psychologist conducts an Intelligent Quotient (IQ) test for a 25 years old. The result is 78. How is the IQ interpreted?

Options :

1. ✘ Superior intelligence
2. ✘ Average intelligence
3. ✔ Borderline intelligence
4. ✘ Feeble-minded

Question Number : 119 Question Id : 50964713583 Question Type : MCQ Option Shuffling : Yes Display Question Number : Yes
Single Line Question Option : No Option Orientation : Vertical

Correct Marks : 1 Wrong Marks : 0.25

एक नैदानिक मनोवैज्ञानिक एक 25 वर्ष की उम्र वाले के लिए एक इंटेलिजेंट क्वेशेंट (आईक्यू) परीक्षा आयोजित करता है। परिणाम 78 है। किस तरह आईक्यू की व्याख्या की जाती है?

Options :

1. ✘ श्रेष्ठ बुद्धि
2. ✘ औसत बुद्धि
3. ✔ सीमावर्ती बुद्धि
4. ✘ मंद बुद्धि

Question Number : 120 Question Id : 50964713584 Question Type : MCQ Option Shuffling : Yes Display Question Number : Yes
Single Line Question Option : No Option Orientation : Vertical

Correct Marks : 1 Wrong Marks : 0.25

Arrange the types of thinking in the sequence from simple to complex.

Options :

1. ✔ Knowledge, Comprehension, Application, Analysis, Synthesis and Evaluation
2. ✘ Knowledge, Application, Analysis, Comprehension, Synthesis and Evaluation
3. ✘ Knowledge, Application, Synthesis, Evaluation, Comprehension and Analysis
4. ✘ Knowledge, Comprehension, Synthesis, Application, Analysis and Evaluation

Question Number : 120 Question Id : 50964713584 Question Type : MCQ Option Shuffling : Yes Display Question Number : Yes
Single Line Question Option : No Option Orientation : Vertical

Correct Marks : 1 Wrong Marks : 0.25

सरल से कठिन तक के क्रमों में सोच के प्रकारों को व्यवस्थित करें।

Options :

1. ✓ ज्ञान, समझ, अनुप्रयोग, विश्लेषण, संश्लेषण और मूल्यांकन।
2. ✗ ज्ञान, अनुप्रयोग, विश्लेषण, समझ, संश्लेषण और मूल्यांकन।
3. ✗ ज्ञान, अनुप्रयोग, संश्लेषण, मूल्यांकन, समझ और विश्लेषण।
4. ✗ ज्ञान, समझ, संश्लेषण, अनुप्रयोग, विश्लेषण और मूल्यांकन।

Discipline2

Group Number :	7
Group Id :	509647378
Group Maximum Duration :	0
Group Minimum Duration :	0
Revisit allowed for view? :	No
Revisit allowed for edit? :	No
Break time:	0
Group Marks:	20
Revisit allowed for group Instructions? :	Yes
Maximum Instruction Time:	0
Minimum Instruction Time:	0

Discipline2

Section Id :	509647538
Section Number :	1
Section type :	Online
Mandatory or Optional:	Mandatory
Number of Questions:	20
Number of Questions to be attempted:	20
Section Marks:	20
Display Number Panel:	Yes
Group All Questions:	No

Sub-Section Number:	1
Sub-Section Id:	509647728
Question Shuffling Allowed :	Yes

Question Number : 121 Question Id : 50964713585 Question Type : MCQ Option Shuffling : Yes Display Question Number : Yes
Single Line Question Option : No Option Orientation : Vertical

Correct Marks : 1 Wrong Marks : 0.25

The process of fusion of the spermatozoon with the mature ovum is called:

Options :

1. ✘ gametogenesis
2. ✘ ovulation
3. ✔ fertilisation
4. ✘ implantation

Question Number : 121 Question Id : 50964713585 Question Type : MCQ Option Shuffling : Yes Display Question Number : Yes
Single Line Question Option : No Option Orientation : Vertical

Correct Marks : 1 Wrong Marks : 0.25

शुक्राणु के संलयन के साथ परिपक्व डिंब की प्रक्रिया को कहा जाता है:

Options :

1. ✘ गमेटोजेनेसिस।
2. ✘ ओवुलेशन।
3. ✔ फर्टिलाइजेशन।
4. ✘ इम्प्लांटेशन।

Question Number : 122 Question Id : 50964713586 Question Type : MCQ Option Shuffling : Yes Display Question Number : Yes
Single Line Question Option : No Option Orientation : Vertical

Correct Marks : 1 Wrong Marks : 0.25

Which of the following is the mucous lining of the uterine cavity?

Options :

1. ✘ Ectometrium
2. ✘ Myometrium
3. ✔ Endometrium
4. ✘ Perimetrium

Question Number : 122 Question Id : 50964713586 Question Type : MCQ Option Shuffling : Yes Display Question Number : Yes
Single Line Question Option : No Option Orientation : Vertical

Correct Marks : 1 Wrong Marks : 0.25

निम्नलिखित में से कौन सा गर्भाशय गुहा की श्लेष्मा अस्तर है?

Options :

1. ✘ इक्टोमेट्रियम
2. ✘ मयोमेट्रियम
3. ✔ एंडोमेट्रियम
4. ✘ पेरीमेट्रियम

Question Number : 123 Question Id : 50964713587 Question Type : MCQ Option Shuffling : Yes Display Question Number : Yes
Single Line Question Option : No Option Orientation : Vertical

Correct Marks : 1 Wrong Marks : 0.25

By which week is the height of a pregnant uterus at the level of the umbilicus?

Options :

1. ✘ 16th week
2. ✘ 20th week
3. ✔ 24th week
4. ✘ 28th week

Question Number : 123 Question Id : 50964713587 Question Type : MCQ Option Shuffling : Yes Display Question Number : Yes
Single Line Question Option : No Option Orientation : Vertical

Correct Marks : 1 Wrong Marks : 0.25

किस सप्ताह तक गर्भनाल की ऊंचाई के स्तर पर एक गर्भवती गर्भाशय होती है?

Options :

1. ✘ 16th सप्ताह
2. ✘ 20th सप्ताह
3. ✔ 24th सप्ताह
4. ✘ 28th सप्ताह

Question Number : 124 Question Id : 50964713588 Question Type : MCQ Option Shuffling : Yes Display Question Number : Yes
Single Line Question Option : No Option Orientation : Vertical

Correct Marks : 1 Wrong Marks : 0.25

Which of the following is NOT a sign of actual labour pain?

Options :

1. Pain confined to the lower abdomen and groin
2. Progressive effacement
3. Dilatation of the internal os
4. Formation of bag of waters

Question Number : 124 Question Id : 50964713588 Question Type : MCQ Option Shuffling : Yes Display Question Number : Yes
Single Line Question Option : No Option Orientation : Vertical

Correct Marks : 1 Wrong Marks : 0.25

निम्नलिखित में से क्या वास्तविक प्रसव पीड़ा का संकेत नहीं है?

Options :

1. दर्द निचले पेट और कमर तक ही सीमित है
2. प्रगतिशील मिटाना
3. आंतरिक ओएस का फैलाव
4. पानी की थेलियों का गठन

Question Number : 125 Question Id : 50964713589 Question Type : MCQ Option Shuffling : Yes Display Question Number : Yes
Single Line Question Option : No Option Orientation : Vertical

Correct Marks : 1 Wrong Marks : 0.25

The process when the presenting part sinks into the true pelvis is called:

Options :

1. quickening
2. loosening
3. lightening
4. floating

Question Number : 125 Question Id : 50964713589 Question Type : MCQ Option Shuffling : Yes Display Question Number : Yes
Single Line Question Option : No Option Orientation : Vertical

Correct Marks : 1 Wrong Marks : 0.25

प्रक्रिया जब पेश करने वाला हिस्सा सही श्रोणि में डूब जाता है, उसे कहा जाता है:

Options :

1. ✘ जल्दी से
2. ✘ ढीला होना
3. ✔ बिजली चमकना
4. ✘ तैरना

Question Number : 126 Question Id : 50964713590 Question Type : MCQ Option Shuffling : Yes Display Question Number : Yes
Single Line Question Option : No Option Orientation : Vertical

Correct Marks : 1 Wrong Marks : 0.25

What is a pregnant lady advised to do at home when she complains of a sudden gush of watery fluid per vagina?

Options :

1. ✘ Suggest that it's a normal occurrence
2. ✔ Go to the emergency immediately
3. ✘ Ask her to use a sanitary napkin
4. ✘ Advise her to wait for the fluid to stop

Question Number : 126 Question Id : 50964713590 Question Type : MCQ Option Shuffling : Yes Display Question Number : Yes
Single Line Question Option : No Option Orientation : Vertical

Correct Marks : 1 Wrong Marks : 0.25

एक गर्भवती महिला को घर पर क्या करने की सलाह देते हैं, जब वह योनि में अचानक पानी के तरल पदार्थ की शिकायत करती है?

Options :

1. ✘ यह सुझाव दें कि यह एक सामान्य घटना है।
2. ✔ तुरंत आपातकाल में जाएं।
3. ✘ उसे कहे की वह सैनिटरी नैपकिन का उपयोग करे।
4. ✘ उसे सलाह दें की वह तरल पदार्थ के रुकने की प्रतीक्षा करे।

Question Number : 127 Question Id : 50964713591 Question Type : MCQ Option Shuffling : Yes Display Question Number : Yes
Single Line Question Option : No Option Orientation : Vertical

Correct Marks : 1 Wrong Marks : 0.25

What is the duration of lochia serosa?

Options :

1. ✘ 1 to 4 days
2. ✔ 5 to 9 days
3. ✘ 10 to 12 days
4. ✘ 13 to 15 days

Question Number : 127 Question Id : 50964713591 Question Type : MCQ Option Shuffling : Yes Display Question Number : Yes
Single Line Question Option : No Option Orientation : Vertical

Correct Marks : 1 Wrong Marks : 0.25

लोचिया सेरोसा की क्या अवधि है?

Options :

1. ✘ 1 से 4 दिन तक
2. ✔ 5 से 9 दिन तक
3. ✘ 10 से 12 दिन तक
4. ✘ 13 से 15 दिन तक

Question Number : 128 Question Id : 50964713592 Question Type : MCQ Option Shuffling : Yes Display Question Number : Yes
Single Line Question Option : No Option Orientation : Vertical

Correct Marks : 1 Wrong Marks : 0.25

Which sign is seen one week after an intrauterine foetal death due to irregular overlapping of cranial bones with liquefaction of brain matter?

Options :

1. ✘ Stallworthy's sign
2. ✔ Spalding sign
3. ✘ Placental sign
4. ✘ Piskacek's sign

Question Number : 128 Question Id : 50964713592 Question Type : MCQ Option Shuffling : Yes Display Question Number : Yes
Single Line Question Option : No Option Orientation : Vertical

Correct Marks : 1 Wrong Marks : 0.25

मस्तिष्क के द्रव्य के द्रवीकरण के साथ कपाल की हड्डियों के अनियमित ओवरलैपिंग के कारण अंतर्गर्भाशयी भ्रूण की मृत्यु के एक सप्ताह बाद कौन सा चिन्ह दिखाई देता है?

Options :

1. ✘ स्टालवर्थ का चिन्ह
2. ✔ स्पाल्डिंग का चिन्ह
3. ✘ प्लासैन्टल का चिन्ह
4. ✘ पिस्कैस्क का चिन्ह

Question Number : 129 Question Id : 50964713593 Question Type : MCQ Option Shuffling : Yes Display Question Number : Yes
Single Line Question Option : No Option Orientation : Vertical

Correct Marks : 1 Wrong Marks : 0.25

What is Post-Mature Pregnancy?

Options :

1. ✘ Pregnancy that continues beyond 28 completed weeks
2. ✘ Pregnancy that continues beyond 40 completed weeks.
3. ✘ Pregnancy that continues beyond 37 completed weeks
4. ✔ Pregnancy that continues beyond 42 completed weeks

Question Number : 129 Question Id : 50964713593 Question Type : MCQ Option Shuffling : Yes Display Question Number : Yes
Single Line Question Option : No Option Orientation : Vertical

Correct Marks : 1 Wrong Marks : 0.25

पोस्ट-परिपक्व गर्भावस्था क्या होता है?

Options :

1. ✘ गर्भावस्था जो 28 पूर्ण सप्ताह तक जारी रहती है।
2. ✘ गर्भावस्था जो 40 पूर्ण सप्ताह तक जारी रहती है।
3. ✘ गर्भावस्था जो 37 पूर्ण सप्ताह तक जारी रहती है।
4. ✔ गर्भावस्था जो 42 पूर्ण सप्ताह तक जारी रहती है।

Question Number : 130 Question Id : 50964713594 Question Type : MCQ Option Shuffling : Yes Display Question Number : Yes
Single Line Question Option : No Option Orientation : Vertical

Correct Marks : 1 Wrong Marks : 0.25

Which of the following initial nursing actions is to be performed when a nurse notices the umbilical cord protruding from the vagina while performing a vaginal assessment on a pregnant lady in labour?

Options :

1. ✘ Perform per vaginal examination
2. ✘ Gently push the cord into the vagina
3. ✔ Place the client in Trendelenburg's position
4. ✘ Lower the foot of the bed

Question Number : 130 Question Id : 50964713594 Question Type : MCQ Option Shuffling : Yes Display Question Number : Yes
Single Line Question Option : No Option Orientation : Vertical

Correct Marks : 1 Wrong Marks : 0.25

निम्नलिखित में से कौन सी प्रारंभिक नर्सिंग क्रिया करनी चाहिए जब एक नर्स एक गर्भवती महिला को प्रसव में योनि का आकलन करते समय योनि से गर्भनाल को उभरा हुआ देखती है?

Options :

1. ✘ योनि की जाँच करें।
2. ✘ मृदुता से गर्भनाल को योनि में धकेल दें।
3. ✔ ग्राहक को ट्रेंडेलनबर्ग की स्थिति में रखें।
4. ✘ बिस्तर के पैर को नीचे कर दें।

Question Number : 131 Question Id : 50964713595 Question Type : MCQ Option Shuffling : Yes Display Question Number : Yes
Single Line Question Option : No Option Orientation : Vertical

Correct Marks : 1 Wrong Marks : 0.25

Where is the cord attached in a battledore placenta?

Options :

1. ✔ To the placental margin
2. ✘ To the centre of the placenta
3. ✘ Only to the membranes of the placenta
4. ✘ Unattached to the placenta

Question Number : 131 Question Id : 50964713595 Question Type : MCQ Option Shuffling : Yes Display Question Number : Yes
Single Line Question Option : No Option Orientation : Vertical

Correct Marks : 1 Wrong Marks : 0.25

एक बैटलडोर प्लेसेंटा में कॉर्ड कहां से जुड़ी होती है?

Options :

1. ✓ अपरा मार्जिन से।
2. ✗ नाल के केंद्र से।
3. ✗ केवल नाल के झिल्ली से ही।
4. ✗ अपरा से नहीं जुड़ी होती।

Question Number : 132 Question Id : 50964713596 Question Type : MCQ Option Shuffling : Yes Display Question Number : Yes
Single Line Question Option : No Option Orientation : Vertical

Correct Marks : 1 Wrong Marks : 0.25

What complication should a pregnant lady be monitored for, who has been admitted to the hospital with a diagnosis of severe preeclampsia in the last trimester?

Options :

1. ✗ Periods of foetal movement followed by quiet periods
2. ✗ Enlargement of the breasts
3. ✗ Complaints of feeling hot when the room is cool
4. ✓ Evidence of petechiae and purpura

Question Number : 132 Question Id : 50964713596 Question Type : MCQ Option Shuffling : Yes Display Question Number : Yes
Single Line Question Option : No Option Orientation : Vertical

Correct Marks : 1 Wrong Marks : 0.25

गर्भवती महिला की किस जटिलता के लिए निगरानी की जानी चाहिए, जिसे पिछली तिमाही में गंभीर प्रीक्लेम्पसिया के निदान के साथ अस्पताल में भर्ती कराया गया है?

Options :

1. ✗ भ्रूण गतिविधि की अवधियों के बाद शांत अवधियां।
2. ✗ स्तनों की वृद्धि।
3. ✗ कमरा ठंडा होने के बावजूद, गर्म महसूस होने की शिकायत।

4. ✓ पेटेकिया और पुरपुरा के सबूत।

Question Number : 133 Question Id : 50964713597 Question Type : MCQ Option Shuffling : Yes Display Question Number : Yes
Single Line Question Option : No Option Orientation : Vertical

Correct Marks : 1 Wrong Marks : 0.25

Which of the following initial nursing assessments has to be performed on a pregnant lady after attaching the electronic foetal monitor in the labor room?

Options :

1. ✓ Assess the baseline foetal heart rate
2. ✘ Determine the intensity of the contractions
3. ✘ Identify the types of accelerations
4. ✘ Determine the frequency of the contractions

Question Number : 133 Question Id : 50964713597 Question Type : MCQ Option Shuffling : Yes Display Question Number : Yes
Single Line Question Option : No Option Orientation : Vertical

Correct Marks : 1 Wrong Marks : 0.25

एक गर्भवती महिला को लेबर रूम में इलेक्ट्रॉनिक भ्रूण मॉनिटर संलग्न करने के बाद निम्नलिखित में से कौन सा प्रारंभिक नर्सिंग आकलन किया जाता है?

Options :

1. ✓ बेसलाइन भ्रूण की हृदय गति का आकलन करें।
2. ✘ संकुचन की तीव्रता तय करें।
3. ✘ तेज़ी के प्रकारों को पहचानें।
4. ✘ संकुचन की आवृत्ति तय करें।

Question Number : 134 Question Id : 50964713598 Question Type : MCQ Option Shuffling : Yes Display Question Number : Yes
Single Line Question Option : No Option Orientation : Vertical

Correct Marks : 1 Wrong Marks : 0.25

Using Naegele's rule, determine the estimated date of delivery for a pregnant lady who arrives at the clinic for her first antenatal assessment. The first day of her last menstrual period was 19 October 2018:

Options :

1. ✘ 12 July 2019
2. ✓ 26 July 2019

3. ✘ 12 August 2019

4. ✘ 26 August 2019

Question Number : 134 Question Id : 50964713598 Question Type : MCQ Option Shuffling : Yes Display Question Number : Yes
Single Line Question Option : No Option Orientation : Vertical

Correct Marks : 1 Wrong Marks : 0.25

नैजेल के नियम का उपयोग करते हुए, एक गर्भवती महिला के लिए प्रसव की अनुमानित तारीख निर्धारित करें जो उसके पहले प्रसवपूर्व मूल्यांकन के लिए क्लिनिक में आती है। उनके अंतिम मासिक धर्म का पहला दिन 19 अक्टूबर 2018 था।

Options :

1. ✘ 12 जुलाई 2019

2. ✔ 26 जुलाई 2019

3. ✘ 12 अगस्त 2019

4. ✘ 26 अगस्त 2019

Question Number : 135 Question Id : 50964713599 Question Type : MCQ Option Shuffling : Yes Display Question Number : Yes
Single Line Question Option : No Option Orientation : Vertical

Correct Marks : 1 Wrong Marks : 0.25

In which year was the Declaration of the Rights of the Child adopted by the United Nations?

Options :

1. ✘ 1947

2. ✔ 1959

3. ✘ 1963

4. ✘ 1979

Question Number : 135 Question Id : 50964713599 Question Type : MCQ Option Shuffling : Yes Display Question Number : Yes
Single Line Question Option : No Option Orientation : Vertical

Correct Marks : 1 Wrong Marks : 0.25

किस साल में संयुक्त राष्ट्र द्वारा बाल अधिकारों की घोषणा की गई थी?

Options :

1. ✘ 1947

2. ✔ 1959

3. ✖ 1963

4. ✖ 1979

Question Number : 136 Question Id : 50964713600 Question Type : MCQ Option Shuffling : Yes Display Question Number : Yes
Single Line Question Option : No Option Orientation : Vertical

Correct Marks : 1 Wrong Marks : 0.25

What is the expected response after tonic neck reflex is elicited?

Note: For this question, discrepancy is found in question/answer. So, this question is ignored for all candidates.

Options :

1. 0
2. 4
3. 7
4. 11

Question Number : 136 Question Id : 50964713600 Question Type : MCQ Option Shuffling : Yes Display Question Number : Yes
Single Line Question Option : No Option Orientation : Vertical

Correct Marks : 1 Wrong Marks : 0.25

टॉनिक नैक रिफ्लेक्स होने के बाद अपेक्षित प्रतिक्रिया क्या है?

Note: For this question, discrepancy is found in question/answer. So, this question is ignored for all candidates.

Options :

1. 0
2. 4
3. 7
4. 11

Question Number : 137 Question Id : 50964713601 Question Type : MCQ Option Shuffling : Yes Display Question Number : Yes
Single Line Question Option : No Option Orientation : Vertical

Correct Marks : 1 Wrong Marks : 0.25

What are the characteristic findings with regards to CSF after a lumbar puncture is performed on a child who has bacterial meningitis?

Options :

1. ✖ CSF is clear, decreased pressure, decreased proteins and increased glucose

2. ✘ CSF is clear, decreased neutrophils, increased protein, decreased glucose
3. ✘ CSF is cloudy, increased pressure, decreased proteins, increased glucose
4. ✔ CSF is cloudy, elevated neutrophils, elevated proteins, decreased glucose

Question Number : 137 Question Id : 50964713601 Question Type : MCQ Option Shuffling : Yes Display Question Number : Yes
Single Line Question Option : No Option Orientation : Vertical

Correct Marks : 1 Wrong Marks : 0.25

बैक्टीरियल मनिंजाइटिस वाले एक बच्चे को कमर का पंचर होने के बाद सीएसएफ के संबंध में विशिष्ट परिणाम क्या हैं?

Options :

1. ✘ सीएसएफ स्पष्ट है, दबाव की कमी, प्रोटीन की कमी और ग्लूकोज की वृद्धि।
2. ✘ सीएसएफ स्पष्ट है, न्यूट्रोफिल की कमी, प्रोटीन की वृद्धि, ग्लूकोज की कमी।
3. ✘ सीएसएफ धुंधला है, दबाव में वृद्धि, प्रोटीन में कमी, ग्लूकोज में वृद्धि।
4. ✔ सीएसएफ धुंधला है, उंचा न्यूट्रोफिल, उंचा प्रोटीन, ग्लूकोज में कमी।

Question Number : 138 Question Id : 50964713602 Question Type : MCQ Option Shuffling : Yes Display Question Number : Yes
Single Line Question Option : No Option Orientation : Vertical

Correct Marks : 1 Wrong Marks : 0.25

What is Early-Onset Neonatal Sepsis?

Options :

1. ✘ Infection that develops within 12 hours of being born.
2. ✘ Infection that develops within 24 hours of being born.
3. ✘ Infection that develops within 48 hours of being born.
4. ✔ Infection that develops within 72 hours of being born.

Question Number : 138 Question Id : 50964713602 Question Type : MCQ Option Shuffling : Yes Display Question Number : Yes
Single Line Question Option : No Option Orientation : Vertical

Correct Marks : 1 Wrong Marks : 0.25

जल्दी-आरम्भ नवजात सेप्सिस क्या है?

Options :

1. ✘ इन्फेक्शन जो पैदा होने के 12 घंटे के भीतर विकसित होता है।

2. ✘ इनफेक्शन जो पैदा होने के 24 घंटे के भीतर विकसित होता है।
3. ✘ इनफेक्शन जो पैदा होने के 48 घंटे के भीतर विकसित होता है।
4. ✔ इनफेक्शन जो पैदा होने के 72 घंटे के भीतर विकसित होता है।

Question Number : 139 Question Id : 50964713603 Question Type : MCQ Option Shuffling : Yes Display Question Number : Yes
Single Line Question Option : No Option Orientation : Vertical

Correct Marks : 1 Wrong Marks : 0.25

Which of the following conditions means 'red boy' according to the origin of its terminology?

Options :

1. ✔ Kwashiorkor
2. ✘ Hemoglobinopathy
3. ✘ Cystic fibrosis
4. ✘ Marasmus

Question Number : 139 Question Id : 50964713603 Question Type : MCQ Option Shuffling : Yes Display Question Number : Yes
Single Line Question Option : No Option Orientation : Vertical

Correct Marks : 1 Wrong Marks : 0.25

अपनी शब्दावली की उत्पत्ति के अनुसार निम्नलिखित में से 'रेड बॉय' किस स्थिति का अर्थ है?

Options :

1. ✔ क्वाशियर्कर।
2. ✘ हेमोग्लोबिनोपैथी।
3. ✘ सिस्टिक फाइब्रोसिस।
4. ✘ सूखा रोग

Question Number : 140 Question Id : 50964713604 Question Type : MCQ Option Shuffling : Yes Display Question Number : Yes
Single Line Question Option : No Option Orientation : Vertical

Correct Marks : 1 Wrong Marks : 0.25

Which deformity of the spine presents as an increased roundness of the thoracic curve?

Options :

1. ✘ Scoliosis

2. ✘ Lordosis
3. ✔ Kyphosis
4. ✘ Osteomyelitis

Question Number : 140 Question Id : 50964713604 Question Type : MCQ Option Shuffling : Yes Display Question Number : Yes
Single Line Question Option : No Option Orientation : Vertical

Correct Marks : 1 Wrong Marks : 0.25

रीढ़ की कौन सी विकृति वक्षीय वक्र की बढ़ी हुई गोलाई के रूप में प्रस्तुत रहती है?

Options :

1. ✘ रीढ़ का एक ओर का टेढ़ापन (स्कोलियोसिस)
2. ✘ अग्रकुब्जता (लोरडोसिस)
3. ✔ कुब्जता (कीफॉसिस)
4. ✘ अस्थिमज्जा का प्रदाह (ऑस्टियोमायलिटिस)

Discipline3

Group Number :	8
Group Id :	509647379
Group Maximum Duration :	0
Group Minimum Duration :	0
Revisit allowed for view? :	No
Revisit allowed for edit? :	No
Break time:	0
Group Marks:	20
Revisit allowed for group Instructions? :	Yes
Maximum Instruction Time:	0
Minimum Instruction Time:	0

Discipline3

Section Id :	509647539
Section Number :	1
Section type :	Online
Mandatory or Optional:	Mandatory
Number of Questions:	20
Number of Questions to be attempted:	20
Section Marks:	20
Display Number Panel:	Yes

Group All Questions:

No

Sub-Section Number:

1

Sub-Section Id:

509647729

Question Shuffling Allowed :

Yes

Question Number : 141 Question Id : 50964713605 Question Type : MCQ Option Shuffling : Yes Display Question Number : Yes
Single Line Question Option : No Option Orientation : Vertical

Correct Marks : 1 Wrong Marks : 0.25

How much potassium chloride is present in an oral rehydration solution?

Options :

1. ✓ 1.5 gm

2. ✗ 2.5 gm

3. ✗ 2.9 gm

4. ✗ 3.5 gm

Question Number : 141 Question Id : 50964713605 Question Type : MCQ Option Shuffling : Yes Display Question Number : Yes
Single Line Question Option : No Option Orientation : Vertical

Correct Marks : 1 Wrong Marks : 0.25

एक मौखिक निर्जलीकरण घोल में कितना पोटेशियम क्लोराइड मौजूद होता है?

Options :

1. ✓ 1.5 gm

2. ✗ 2.5 gm

3. ✗ 2.9 gm

4. ✗ 3.5 gm

Question Number : 142 Question Id : 50964713606 Question Type : MCQ Option Shuffling : Yes Display Question Number : Yes
Single Line Question Option : No Option Orientation : Vertical

Correct Marks : 1 Wrong Marks : 0.25

निम्नलिखित में से कौन सी बीमारी हिस्चस्प्रुंग बीमारी वाले बच्चे का लक्षण है?

Options :

1. ✗ पेट में दर्द

2. ✘ साँसेज के आकार की गांठ पेट को टटोलने पर महसूस हुई
3. ✔ रिबन जैसा दस्त
4. ✘ खाद्य पदार्थ की उलटी

Question Number : 142 Question Id : 50964713606 Question Type : MCQ Option Shuffling : Yes Display Question Number : Yes
Single Line Question Option : No Option Orientation : Vertical

Correct Marks : 1 Wrong Marks : 0.25

Which of the following is the presenting symptom of a child with Hirschsprung's disease?

Options :

1. ✘ Abdominal pain
2. ✘ Sausage-shaped lump felt upon palpating the abdomen
3. ✔ Ribbon-like stools
4. ✘ Regurgitation of feeds

Question Number : 143 Question Id : 50964713607 Question Type : MCQ Option Shuffling : Yes Display Question Number : Yes
Single Line Question Option : No Option Orientation : Vertical

Correct Marks : 1 Wrong Marks : 0.25

Which of the following is NOT a nursing care aspect for a child with haemophilia?

Options :

1. ✘ Advise to use a soft toothbrush
2. ✘ Advise to keep fingernails short
3. ✔ Advise to get circumcised
4. ✘ Advise to wear padded clothing and a helmet while playing

Question Number : 143 Question Id : 50964713607 Question Type : MCQ Option Shuffling : Yes Display Question Number : Yes
Single Line Question Option : No Option Orientation : Vertical

Correct Marks : 1 Wrong Marks : 0.25

निम्न में से कौन सा हिमोफिलिया वाले बच्चे के लिए नर्सिंग देखभाल का पहलू नहीं है?

Options :

1. ✘ नरम टूथब्रश का उपयोग करने की सलाह

2. ✘ नाखूनों को छोटा रखने की सलाह
3. ✔ खतना करवाने की सलाह
4. ✘ खेलते समय गद्देदार कपड़े और हेलमेट पहनने की सलाह

Question Number : 144 Question Id : 50964713608 Question Type : MCQ Option Shuffling : Yes Display Question Number : Yes
Single Line Question Option : No Option Orientation : Vertical

Correct Marks : 1 Wrong Marks : 0.25

In which of the following neural tube defects, there is a protrusion of meninges with spinal tissue and CSF?

Options :

1. ✘ Spina bifida occulta
2. ✘ Meningocele
3. ✘ Myelocele
4. ✔ Meningomyelocele

Question Number : 144 Question Id : 50964713608 Question Type : MCQ Option Shuffling : Yes Display Question Number : Yes
Single Line Question Option : No Option Orientation : Vertical

Correct Marks : 1 Wrong Marks : 0.25

निम्नलिखित में से किस न्यूरल ट्यूब दोष में रीढ़ की हड्डी के ऊतकों और सीएसएफ के साथ मेनिन्जेस का फैलाव होता है?

Options :

1. ✘ स्पाइना बिफिडा ओकुल्टा
2. ✘ मेनिंगोसेले
3. ✘ मयेलोसले
4. ✔ मेनिनगोमाइलोसेल

Question Number : 145 Question Id : 50964713609 Question Type : MCQ Option Shuffling : Yes Display Question Number : Yes
Single Line Question Option : No Option Orientation : Vertical

Correct Marks : 1 Wrong Marks : 0.25

What is the level of blood glucose in a full-term baby who has hypoglycemia?

Note: For this question, discrepancy is found in question/answer. So, this question is ignored for all candidates.

Options :

1. Less than 20 mg/dl
2. Less than 30 mg/dl
3. Less than 50 mg/dl
4. Less than 70 mg/dl

Question Number : 145 Question Id : 50964713609 Question Type : MCQ Option Shuffling : Yes Display Question Number : Yes
Single Line Question Option : No Option Orientation : Vertical

Correct Marks : 1 Wrong Marks : 0.25

एक पूर्ण अवधि के बच्चे में जिसे हाइपोग्लाइसीमिया है रक्त शर्करा का स्तर क्या है?

Note: For this question, discrepancy is found in question/answer. So, this question is ignored for all candidates.

Options :

1. 20 mg/dl से कम
2. 30 mg/dl से कम
3. 50 mg/dl से कम
4. 70 mg/dl से कम

Question Number : 146 Question Id : 50964713610 Question Type : MCQ Option Shuffling : Yes Display Question Number : Yes
Single Line Question Option : No Option Orientation : Vertical

Correct Marks : 1 Wrong Marks : 0.25

Which of the following is the correct sequence for phases of the bacterial growth curve?

Options :

1. ✘ Decline, log, lag and stationary
2. ✔ Lag, log, stationary and decline
3. ✘ Log, lag, stationary and decline
4. ✘ Stationary, decline, lag and log

Question Number : 146 Question Id : 50964713610 Question Type : MCQ Option Shuffling : Yes Display Question Number : Yes
Single Line Question Option : No Option Orientation : Vertical

Correct Marks : 1 Wrong Marks : 0.25

निम्नलिखित में से कौन सा जीवाणु विकास वक्र के चरणों के लिए सही अनुक्रम है?

Options :

1. ✘ गिरावट, लॉग, अंतराल और स्थिर
2. ✔ अंतराल, लॉग, स्थिर और गिरावट
3. ✘ लॉग, अंतराल, स्थिर और गिरावट
4. ✘ स्थिर, गिरावट, अंतराल और लॉग

Question Number : 147 Question Id : 50964713611 Question Type : MCQ Option Shuffling : Yes Display Question Number : Yes
Single Line Question Option : No Option Orientation : Vertical

Correct Marks : 1 Wrong Marks : 0.25

How are Gram stain results differentiated between Gram-positive bacteria and Gram-negative bacteria?

Options :

1. ✔ Gram-positive results are purple, Gram-negative results are pink
2. ✘ Gram-positive results are pink, Gram-negative results are purple
3. ✘ Gram-positive results are bluish-black, Gram-negative results are bluish-green
4. ✘ Gram-positive results are bluish-green, Gram-negative results are bluish-black

Question Number : 147 Question Id : 50964713611 Question Type : MCQ Option Shuffling : Yes Display Question Number : Yes
Single Line Question Option : No Option Orientation : Vertical

Correct Marks : 1 Wrong Marks : 0.25

ग्राम-सकारात्मक बैक्टीरिया और ग्राम-नकारात्मक बैक्टीरिया के बीच ग्राम दाग परिणाम का अंतर कैसे होता है?

Options :

1. ✔ ग्राम-सकारात्मक परिणाम बैंगनी हैं, ग्राम-नकारात्मक परिणाम गुलाबी हैं
2. ✘ ग्राम-सकारात्मक परिणाम गुलाबी हैं, ग्राम-नकारात्मक परिणाम बैंगनी हैं
3. ✘ ग्राम-सकारात्मक परिणाम नीले-काले होते हैं, ग्राम-नकारात्मक परिणाम नीले-हरे होते हैं
4. ✘ ग्राम-सकारात्मक परिणाम नीले-हरे हैं, ग्राम-नकारात्मक परिणाम नीले-काले हैं

Question Number : 148 Question Id : 50964713612 Question Type : MCQ Option Shuffling : Yes Display Question Number : Yes
Single Line Question Option : No Option Orientation : Vertical

Correct Marks : 1 Wrong Marks : 0.25

Choose the correct statement for Trousseau's sign.

Options :

1. ✓ Ischemia induces carpal spasm by inflating the blood pressure cuff
2. ✗ Twitching of facial muscles when the facial nerve is tapped
3. ✗ Tremor, rigidity, bradykinesia and hypokinesia
4. ✗ Sudden and severe attacks of pain, swelling, redness and tenderness in the joints.

Question Number : 148 Question Id : 50964713612 Question Type : MCQ Option Shuffling : Yes Display Question Number : Yes
Single Line Question Option : No Option Orientation : Vertical

Correct Marks : 1 Wrong Marks : 0.25

ट्राउसेउ के संकेत के लिए सही कथन चुनें।

Options :

1. ✓ इस्केमिया रक्तचाप को बढ़ाकर कार्पल ऐंठन को प्रेरित करता है।
2. ✗ चेहरे की मांसपेशियों को मरोड़ना जब चेहरे की तंत्रिका टैप होती है।
3. ✗ ट्रेमर, कठोरता, ब्रैडकिनेसिया और हाइपोकिनेसिया।
4. ✗ दर्द के अचानक और तीव्र दौरों, जोड़ों में सूजन, लालिमा और नरमी।

Question Number : 149 Question Id : 50964713613 Question Type : MCQ Option Shuffling : Yes Display Question Number : Yes
Single Line Question Option : No Option Orientation : Vertical

Correct Marks : 1 Wrong Marks : 0.25

Mr. X underwent bariatric surgery and developed iron deficiency associated with dumping syndrome. Identify the reason for iron deficiency anaemia for Mr. X.

Options :

1. ✗ Weak and unable to eat properly
2. ✗ Severe loss of blood during surgery
3. ✓ Poor absorption of calcium and iron due to surgery
4. ✗ Uncontrolled gastric emptying of fluids high in carbohydrates, into the small intestine

Question Number : 149 Question Id : 50964713613 Question Type : MCQ Option Shuffling : Yes Display Question Number : Yes
Single Line Question Option : No Option Orientation : Vertical

Correct Marks : 1 Wrong Marks : 0.25

मिस्टर X ने बेरिएट्रिक सर्जरी की और डंपिंग सिंड्रोम से जुड़ी आयरन की कमी विकसित की। मिस्टर X के लिए आयरन की कमी के एनीमिया के कारण की पहचान करें।

Options :

1. ✘ कमजोर और ठीक से ना खा पाना
2. ✘ सर्जरी के दौरान रक्त की गंभीर हानि
3. ✔ सर्जरी के कारण कैल्शियम और आयरन का खराब अवशोषण
4. ✘ छोटी आंत में, कार्बोहाइड्रेट में अनियंत्रित गैस्ट्रिक उच्च मात्रा में तरल पदार्थ

Question Number : 150 Question Id : 50964713614 Question Type : MCQ Option Shuffling : Yes Display Question Number : Yes
Single Line Question Option : No Option Orientation : Vertical

Correct Marks : 1 Wrong Marks : 0.25

Which part of the body releases catecholamines in response to stress?

Options :

1. ✘ Hypothalamus
2. ✔ Adrenal medulla
3. ✘ Cerebral cortex
4. ✘ Adrenal cortex

Question Number : 150 Question Id : 50964713614 Question Type : MCQ Option Shuffling : Yes Display Question Number : Yes
Single Line Question Option : No Option Orientation : Vertical

Correct Marks : 1 Wrong Marks : 0.25

तनाव होने पर शरीर का कौन सा हिस्सा कैटेकोलामाइन का स्राव करता है?

Options :

1. ✘ हाइपोथेलेमस
2. ✔ अधिवृक्क मेडूला
3. ✘ सेरेब्रल कॉर्टेक्स
4. ✘ अधिवृक्क बाह्यक

Question Number : 151 Question Id : 50964713615 Question Type : MCQ Option Shuffling : Yes Display Question Number : Yes
Single Line Question Option : No Option Orientation : Vertical

Correct Marks : 1 Wrong Marks : 0.25

What is Telangiectasia?

Options :

1. ✓ Dilated, superficial, cutaneous small blood vessels
2. ✗ Increased prominence of superficial veins
3. ✗ Hypertrophied scars beyond wound margins
4. ✗ Redness occurring in patches

Question Number : 151 Question Id : 50964713615 Question Type : MCQ Option Shuffling : Yes Display Question Number : Yes
Single Line Question Option : No Option Orientation : Vertical

Correct Marks : 1 Wrong Marks : 0.25

तेलंगियाक्टेसिया क्या होता है?

Options :

1. ✓ पतला, सतही, त्वचीय छोटे रक्त वाहिकाओं
2. ✗ सतही नसों की प्रमुखता बड़ी हुई
3. ✗ घाव मार्जिन से परे हाइपरट्रॉफाइड निशान
4. ✗ पैच में लालिमा का होना

Question Number : 152 Question Id : 50964713616 Question Type : MCQ Option Shuffling : Yes Display Question Number : Yes
Single Line Question Option : No Option Orientation : Vertical

Correct Marks : 1 Wrong Marks : 0.25

Presence of clot and inflammation in a vein are features of which of the following options?

Options :

1. ✗ Phlebitis
2. ✗ Air embolism
3. ✓ Thrombophlebitis
4. ✗ Haematoma

Question Number : 152 Question Id : 50964713616 Question Type : MCQ Option Shuffling : Yes Display Question Number : Yes
Single Line Question Option : No Option Orientation : Vertical

Correct Marks : 1 Wrong Marks : 0.25

एक नस में थक्के और सूजन की उपस्थिति निम्नलिखित में से किस विकल्प की विशेषताएं हैं?

Options :

1. ✘ एक नस की दीवारों की सूजन
2. ✘ वायु एम्बालिज़्म
3. ✔ थ्रोम्बोफ्लेबिटिस
4. ✘ ऊतकों के भीतर थक्का बने रक्त की एक ठोस सूजन

Question Number : 153 Question Id : 50964713617 Question Type : MCQ Option Shuffling : Yes Display Question Number : Yes
Single Line Question Option : No Option Orientation : Vertical

Correct Marks : 1 Wrong Marks : 0.25

Which of the following statements is NOT related to the compensatory stage in shock?

Options :

1. ✔ Patient's skin is hot and sweaty
2. ✘ Patient's blood pressure remains within normal limits
3. ✘ Patient displays fight or flight response
4. ✘ Aldosterone and anti-diuretic hormone are released

Question Number : 153 Question Id : 50964713617 Question Type : MCQ Option Shuffling : Yes Display Question Number : Yes
Single Line Question Option : No Option Orientation : Vertical

Correct Marks : 1 Wrong Marks : 0.25

निम्नलिखित में से कौन सा बयान सदमे में प्रतिपूरक चरण से संबंधित नहीं है?

Options :

1. ✔ मरीज की त्वचा गर्म और पसीने से तर है
2. ✘ मरीज का रक्तचाप सामान्य सीमा के अंदर रहता है
3. ✘ मरीज लड़ाई या उड़ान प्रतिक्रिया प्रदर्शित करता है
4. ✘ एल्डोस्टेरोन और एंटी-मूत्रवर्धक हार्मोन स्त्रावित होते हैं

Question Number : 154 Question Id : 50964713618 Question Type : MCQ Option Shuffling : Yes Display Question Number : Yes
Single Line Question Option : No Option Orientation : Vertical

Correct Marks : 1 Wrong Marks : 0.25

What is the normal PaCO₂ range of an arterial blood sample?

Options :

1. ✘ 30 to 40 mm Hg
2. ✘ 35 to 40 mm Hg
3. ✔ 35 to 45 mm Hg
4. ✘ 40 to 45 mm Hg

Question Number : 154 Question Id : 50964713618 Question Type : MCQ Option Shuffling : Yes Display Question Number : Yes
Single Line Question Option : No Option Orientation : Vertical

Correct Marks : 1 Wrong Marks : 0.25

धमनी रक्त के नमूने की सामान्य PaCO₂ रेंज क्या है?

Options :

1. ✘ 30 से 40 mm Hg
2. ✘ 35 से 40 mm Hg
3. ✔ 35 से 45 mm Hg
4. ✘ 40 से 45 mm Hg

Question Number : 155 Question Id : 50964713619 Question Type : MCQ Option Shuffling : Yes Display Question Number : Yes
Single Line Question Option : No Option Orientation : Vertical

Correct Marks : 1 Wrong Marks : 0.25

How is the Functional Residual Capacity (FRC) measured?

Options :

1. ✘ Expiratory Reserve Volume (ERV) + Inspiratory Reserve Volume (IRV) + Tidal Volume (V_T)
2. ✔ Expiratory Reserve Volume (ERV) + Residual Volume (RV)
3. ✘ Inspiratory Reserve Volume (IRV) + Tidal Volume (V_T)
4. ✘ Inspiratory Reserve Volume (IRV) + Residual Volume (RV)

Question Number : 155 Question Id : 50964713619 Question Type : MCQ Option Shuffling : Yes Display Question Number : Yes
Single Line Question Option : No Option Orientation : Vertical

Correct Marks : 1 Wrong Marks : 0.25

कार्यात्मक अवशिष्ट क्षमता (एफआरसी) को कैसे मापते हैं?

Options :

1. ✘ एक्सपिरेटरी रिजर्व वॉल्यूम (ईआरवी) + इंसपिरेटरी रिजर्व वॉल्यूम (आईआरवी) + ज्वारीय मात्रा (वीटी)
2. ✔ एक्सपिरेटरी रिजर्व वॉल्यूम (ईआरवी) + अवशिष्ट मात्रा (आरवी)
3. ✘ इंसपिरेटरी रिजर्व वॉल्यूम (आईआरवी) + ज्वारीय मात्रा (वीटी)
4. ✘ इंसपिरेटरी रिजर्व वॉल्यूम (आईआरवी) + अवशिष्ट मात्रा (आरवी)

Question Number : 156 Question Id : 50964713620 Question Type : MCQ Option Shuffling : Yes Display Question Number : Yes
Single Line Question Option : No Option Orientation : Vertical

Correct Marks : 1 Wrong Marks : 0.25

Mr. Roy is diagnosed with bronchial asthma and is being treated for the same with corticosteroids. What are the anticipated side effects?

Options :

1. ✘ Irritated throat, oral thrush, dry mouth
2. ✘ Bad taste, dry mouth, dry cough
3. ✔ Osteoporosis, obesity, immunosuppression
4. ✘ Headache, dizziness, nausea, vomiting

Question Number : 156 Question Id : 50964713620 Question Type : MCQ Option Shuffling : Yes Display Question Number : Yes
Single Line Question Option : No Option Orientation : Vertical

Correct Marks : 1 Wrong Marks : 0.25

श्री. राँय का ब्रॉन्कियल दमा से निदान किया गया है और कॉर्टिकोस्टेराइड्स के साथ इसका इलाज किया जा रहा है।
प्रत्याशित दुष्प्रभाव क्या हैं?

Options :

1. ✘ गले में खराबी, मुंह में छाला, शुष्क मुंह
2. ✘ खराब स्वाद, सूखा मुंह, सूखी खांसी
3. ✔ ऑस्टियोपोरोसिस, मोटापा, इम्यूनोसप्रेसन
4. ✘ सिरदर्द, चक्कर आना, जी मिचलाना, उल्टी

Question Number : 157 Question Id : 50964713621 Question Type : MCQ Option Shuffling : Yes Display Question Number : Yes
Single Line Question Option : No Option Orientation : Vertical

Correct Marks : 1 Wrong Marks : 0.25

If a nurse evaluates an ECG and finds Saw-toothed P waves, then what would be the diagnosis?

Options :

1. ✘ Atrial fibrillation
2. ✘ Sinus arrhythmia
3. ✘ Premature junctional complex
4. ✔ Atrial flutter

Question Number : 157 Question Id : 50964713621 Question Type : MCQ Option Shuffling : Yes Display Question Number : Yes
Single Line Question Option : No Option Orientation : Vertical

Correct Marks : 1 Wrong Marks : 0.25

यदि एक नर्स ईसीजी का मूल्यांकन करती है और साँ-टूथ वाली पी तरंगों को देखती है, तो निदान क्या होगा?

Options :

1. ✘ अलिंद विकम्पन
2. ✘ नासिका अतालता
3. ✘ समयपूर्व जंक्शन जटिलता
4. ✔ अलिंद स्पंदन

Question Number : 158 Question Id : 50964713622 Question Type : MCQ Option Shuffling : Yes Display Question Number : Yes
Single Line Question Option : No Option Orientation : Vertical

Correct Marks : 1 Wrong Marks : 0.25

Osler's Nodes are a feature of :

Options :

1. ✔ infective endocarditis
2. ✘ rheumatic endocarditis
3. ✘ pericarditis
4. ✘ myocarditis

Question Number : 158 Question Id : 50964713622 Question Type : MCQ Option Shuffling : Yes Display Question Number : Yes
Single Line Question Option : No Option Orientation : Vertical

Correct Marks : 1 Wrong Marks : 0.25

ओस्लर नोड्स _____ की एक विशेषता है।

Options :

1. ✓ संक्रामक अन्तर्हृद्शोथ (एंडोकार्डिटिस)
2. ✗ आमवाती अन्तर्हृद्शोथ
3. ✗ पेरिकार्डिटिस
4. ✗ मायोकार्डिटिस

Question Number : 159 Question Id : 50964713623 Question Type : MCQ Option Shuffling : Yes Display Question Number : Yes
Single Line Question Option : No Option Orientation : Vertical

Correct Marks : 1 Wrong Marks : 0.25

The patient is posted for intravenous pyelogram. Which of the following is a correct intervention?

Options :

1. ✓ Assess for iodine sensitivity
2. ✗ Encourage fluid intake
3. ✗ Administer analgesics
4. ✗ Administer sedative

Question Number : 159 Question Id : 50964713623 Question Type : MCQ Option Shuffling : Yes Display Question Number : Yes
Single Line Question Option : No Option Orientation : Vertical

Correct Marks : 1 Wrong Marks : 0.25

मरीज को अंतःशिरा पाइलोग्राम के लिए निर्धारित किया जाता है। निम्नलिखित में से कौन सी एक सही कार्यवाही है?

Options :

1. ✓ आयोडीन संवेदनशीलता के लिए आकलन करें
2. ✗ तरल पदार्थ का सेवन प्रोत्साहित करें
3. ✗ दर्दनाशक औषधि दें
4. ✗ शांतिकर औषधी दें

Question Number : 160 Question Id : 50964713624 Question Type : MCQ Option Shuffling : Yes Display Question Number : Yes
Single Line Question Option : No Option Orientation : Vertical

Correct Marks : 1 Wrong Marks : 0.25

A nurse is taking care of a patient with Syndrome of Inappropriate Antidiuretic Hormone (SIADH). Which one of the following is a correct nursing intervention for this condition?

Options :

1. ✘ Position head of the bed at more than 10 degrees elevation
2. ✔ Restrict fluid intake to not more than 1000 ml per day
3. ✘ Encourage complete bed rest
4. ✘ Antidiuretic hormone supplementation

Question Number : 160 Question Id : 50964713624 Question Type : MCQ Option Shuffling : Yes Display Question Number : Yes
Single Line Question Option : No Option Orientation : Vertical

Correct Marks : 1 Wrong Marks : 0.25

रिसेप्शन के आदेश पर दाखला

Options :

1. ✘ 10 डिग्री से अधिक की ऊंचाई पर बिस्तर के सिरे को स्थित करना।
2. ✔ तरल पदार्थ का सेवन प्रति दिन 1000 मिलीलीटर से अधिक नहीं प्रतिबंधित करें।
3. ✘ बिस्तर में पूरी तरह आराम करने के लिए प्रोत्साहित करें।
4. ✘ एंटीडाययूरेटिक हार्मोन सप्लीमेंटेशन।

Discipline4

Group Number :	9
Group Id :	509647380
Group Maximum Duration :	0
Group Minimum Duration :	0
Revisit allowed for view? :	No
Revisit allowed for edit? :	No
Break time:	0
Group Marks:	20
Revisit allowed for group Instructions? :	Yes
Maximum Instruction Time:	0
Minimum Instruction Time:	0

Discipline4

Section Id :	509647540
Section Number :	1
Section type :	Online
Mandatory or Optional:	Mandatory
Number of Questions:	20
Number of Questions to be attempted:	20
Section Marks:	20
Display Number Panel:	Yes
Group All Questions:	No

Sub-Section Number:	1
Sub-Section Id:	509647730
Question Shuffling Allowed :	Yes

Question Number : 161 Question Id : 50964713625 Question Type : MCQ Option Shuffling : Yes Display Question Number : Yes
Single Line Question Option : No Option Orientation : Vertical
Correct Marks : 1 Wrong Marks : 0.25

Identify the classic manifestations of Parkinson's disease.

Options :

- ✘ Dysarthria, rigidity and bradykinesia
- ✘ Bradykinesia, ataxia and dysarthria
- ✘ Tremor, ataxia and drowsiness
- ✔ Tremor, rigidity and bradykinesia

Question Number : 161 Question Id : 50964713625 Question Type : MCQ Option Shuffling : Yes Display Question Number : Yes
Single Line Question Option : No Option Orientation : Vertical
Correct Marks : 1 Wrong Marks : 0.25

पार्किंसंस रोग की क्लासिक अभिव्यक्तियों को पहचानें।

Options :

- ✘ डिसरथ्रिया, कठोरता और ब्रैडीकिनेशिया
- ✘ ब्रैडीकिनेशिया, गतिभंग और डिसरथ्रिया
- ✘ चरमराहट, गतिभंग और उर्नीदापन
- ✔ ट्रेमर, कठोरता और ब्रैडीकिनेशिया

Question Number : 162 Question Id : 50964713626 Question Type : MCQ Option Shuffling : Yes Display Question Number : Yes
Single Line Question Option : No Option Orientation : Vertical
Correct Marks : 1 Wrong Marks : 0.25

A 30 year old adult met with a motor vehicle accident three days ago and has been diagnosed with fat embolism syndrome. Identify the type of fracture that has occurred.

Options :

1. ✘ Vertebrae fracture
2. ✘ Carpal fracture
3. ✔ Femur fracture
4. ✘ Rib fracture

Question Number : 162 Question Id : 50964713626 Question Type : MCQ Option Shuffling : Yes Display Question Number : Yes Single Line Question Option : No Option Orientation : Vertical

Correct Marks : 1 Wrong Marks : 0.25

एक 30 साल वयस्क की तीन दिन पहले एक मोटर वाहन दुर्घटना हुई और उसका वसा एम्बोलिज्म सिंड्रोम से निदान किया गया था। उस फ्रैक्चर के प्रकार को पहचानें जो हुआ है।

Options :

1. ✘ कशेरुक फ्रैक्चर
2. ✘ कार्पल फ्रैक्चर
3. ✔ फेमुर फ्रैक्चर
4. ✘ रिब फ्रैक्चर

Question Number : 163 Question Id : 50964713627 Question Type : MCQ Option Shuffling : Yes Display Question Number : Yes Single Line Question Option : No Option Orientation : Vertical

Correct Marks : 1 Wrong Marks : 0.25

Which year was the Child Labour Act passed?

Options :

1. ✘ 1984
2. ✔ 1986
3. ✘ 1988
4. ✘ 1990

Question Number : 163 Question Id : 50964713627 Question Type : MCQ Option Shuffling : Yes Display Question Number : Yes Single Line Question Option : No Option Orientation : Vertical

Correct Marks : 1 Wrong Marks : 0.25

बाल श्रम अधिनियम किस वर्ष में पारित किया गया था?

Options :

1. ✘ 1984
2. ✔ 1986
3. ✘ 1988
4. ✘ 1990

Question Number : 164 Question Id : 50964713628 Question Type : MCQ Option Shuffling : Yes Display Question Number : Yes
Single Line Question Option : No Option Orientation : Vertical

Correct Marks : 1 Wrong Marks : 0.25

What is Endogamy?

Options :

1. ✔ Marrying within the same cultural or ethnic group
2. ✘ Marrying a man belonging to a caste lower than the woman
3. ✘ Marrying a woman belonging to a caste lower than the man
4. ✘ Marrying into a different cultural or ethnic group

Question Number : 164 Question Id : 50964713628 Question Type : MCQ Option Shuffling : Yes Display Question Number : Yes
Single Line Question Option : No Option Orientation : Vertical

Correct Marks : 1 Wrong Marks : 0.25

एंडोगैमी क्या होता है?

Options :

1. ✔ एक ही सांस्कृतिक या जातीय समूह के भीतर विवाह करना
2. ✘ स्त्री से निम्न जाति के पुरुष से शादी करना
3. ✘ पुरुष से निम्न जाति की स्त्री से शादी करना
4. ✘ एक अलग सांस्कृतिक या जातीय समूह में विवाह करना

Question Number : 165 Question Id : 50964713629 Question Type : MCQ Option Shuffling : Yes Display Question Number : Yes
Single Line Question Option : No Option Orientation : Vertical

Correct Marks : 1 Wrong Marks : 0.25

Separation of subject cases not longer than the longest usual incubation period is called:

Options :

1. ✘ surveillance
2. ✘ isolation
3. ✘ monitoring
4. ✔ quarantine

Question Number : 165 Question Id : 50964713629 Question Type : MCQ Option Shuffling : Yes Display Question Number : Yes
Single Line Question Option : No Option Orientation : Vertical

Correct Marks : 1 Wrong Marks : 0.25

सबसे लंबी सामान्य ऊष्मायन अवधि की तुलना में कम लंबे प्रतिभागी मामलों का पृथक्करण क्या कहलाता है?

Options :

1. ✘ चौकसी रखना
2. ✘ अलगाव
3. ✘ निगरानी
4. ✔ क्वारंटाइन

Question Number : 166 Question Id : 50964713630 Question Type : MCQ Option Shuffling : Yes Display Question Number : Yes
Single Line Question Option : No Option Orientation : Vertical

Correct Marks : 1 Wrong Marks : 0.25

As per the International Health Regulations (IHR), occurrence of which of the following diseases is to be notified to WHO?

Options :

1. ✘ Typhoid
2. ✘ Tuberculosis
3. ✔ Plague
4. ✘ Rabies

Question Number : 166 Question Id : 50964713630 Question Type : MCQ Option Shuffling : Yes Display Question Number : Yes
Single Line Question Option : No Option Orientation : Vertical

Correct Marks : 1 Wrong Marks : 0.25

अंतर्राष्ट्रीय स्वास्थ्य विनियम (IHR) के अनुसार, डब्ल्यूएचओ को निम्न में से किस बीमारी के होने की सूचना दी जानी है?

Options :

1. ✘ टाइफाइड
2. ✘ तपेदिक
3. ✔ प्लेग
4. ✘ रेबीज

Question Number : 167 Question Id : 50964713631 Question Type : MCQ Option Shuffling : Yes Display Question Number : Yes
Single Line Question Option : No Option Orientation : Vertical

Correct Marks : 1 Wrong Marks : 0.25

The measurement of occurrence of some particular event in a population, expressed per thousand, at a given period of time is known as:

Options :

1. ✘ ratio
2. ✔ rate
3. ✘ proportion
4. ✘ age specific proportion

Question Number : 167 Question Id : 50964713631 Question Type : MCQ Option Shuffling : Yes Display Question Number : Yes
Single Line Question Option : No Option Orientation : Vertical

Correct Marks : 1 Wrong Marks : 0.25

किसी निश्चित समय की अवधि पर जनसंख्या में किसी विशेष घटना के घटने की माप, प्रति हजार में व्यक्ति, को _____ कहा जाता है।

Options :

1. ✘ अनुपात
2. ✔ दर
3. ✘ समानुपात
4. ✘ आयु विशिष्ट समानुपात

Question Number : 168 Question Id : 50964713632 Question Type : MCQ Option Shuffling : Yes Display Question Number : Yes
Single Line Question Option : No Option Orientation : Vertical

Correct Marks : 1 Wrong Marks : 0.25

A type of research that is undertaken within a defined period of time on a group of people who share common characteristics is called a:

Options :

1. ✘ case study
2. ✘ control study
3. ✔ cohort study
4. ✘ proportion study

Question Number : 168 Question Id : 50964713632 Question Type : MCQ Option Shuffling : Yes Display Question Number : Yes
Single Line Question Option : No Option Orientation : Vertical

Correct Marks : 1 Wrong Marks : 0.25

एक प्रकार का शोध जो आम विशेषताओं को साझा करने वाले लोगों के समूह पर समय की निर्धारित अवधि के भीतर किया जाता है:

Options :

1. ✘ मामले का अध्ययन
2. ✘ नियंत्रण अध्ययन
3. ✔ समूह अध्ययन
4. ✘ समानुपात अध्ययन

Question Number : 169 Question Id : 50964713633 Question Type : MCQ Option Shuffling : Yes Display Question Number : Yes
Single Line Question Option : No Option Orientation : Vertical

Correct Marks : 1 Wrong Marks : 0.25

An endemic disease refers to:

Options :

1. ✘ disease imported from another country
2. ✘ constant presence of a disease in wide geographical areas
3. ✘ sudden outbreak of a disease
4. ✔ constant presence of a disease in a given geographical area

Question Number : 169 Question Id : 50964713633 Question Type : MCQ Option Shuffling : Yes Display Question Number : Yes
Single Line Question Option : No Option Orientation : Vertical

Correct Marks : 1 Wrong Marks : 0.25

एक स्थानिक रोग _____ को संदर्भित करता है।

Options :

1. ✘ दूसरे देश से आयातित रोग
2. ✘ व्यापक भौगोलिक क्षेत्रों में एक रोग की निरंतर मौजूदगी
3. ✘ किसी रोग का अचानक से प्रकोप
4. ✔ दिए गए भौगोलिक क्षेत्र में एक रोग की निरंतर उपस्थिति

Question Number : 170 Question Id : 50964713634 Question Type : MCQ Option Shuffling : Yes Display Question Number : Yes
Single Line Question Option : No Option Orientation : Vertical

Correct Marks : 1 Wrong Marks : 0.25

Which of the following is NOT the way to acquire active immunity?

Options :

1. ✘ Exposure to the disease
2. ✔ Antibody transfusion
3. ✘ Vaccination
4. ✘ Exposure to subclinical infection

Question Number : 170 Question Id : 50964713634 Question Type : MCQ Option Shuffling : Yes Display Question Number : Yes
Single Line Question Option : No Option Orientation : Vertical

Correct Marks : 1 Wrong Marks : 0.25

निम्नलिखित में से कौन सा सक्रिय प्रतिरक्षा हासिल करने का तरीका नहीं है?

Options :

1. ✘ रोग के संपर्क में
2. ✔ एंटीबॉडी आधान
3. ✘ टीका लगाना
4. ✘ उप-संक्रामक संक्रमण के संपर्क में

Question Number : 171 Question Id : 50964713635 Question Type : MCQ Option Shuffling : Yes Display Question Number : Yes
Single Line Question Option : No Option Orientation : Vertical

Correct Marks : 1 Wrong Marks : 0.25

Which committee is also known as the Health Survey and Development Committee?

Options :

1. ✘ Chadha Committee
2. ✔ Bhore Committee
3. ✘ Mudaliar Committee
4. ✘ Mukherjee Committee

Question Number : 171 Question Id : 50964713635 Question Type : MCQ Option Shuffling : Yes Display Question Number : Yes
Single Line Question Option : No Option Orientation : Vertical

Correct Marks : 1 Wrong Marks : 0.25

किस समिति को स्वास्थ्य सर्वेक्षण और विकास समिति के रूप में भी जाना जाता है?

Options :

1. ✘ चड्ढा समिति
2. ✔ भोरे समिति
3. ✘ मुदलियार समिति
4. ✘ मुखेरी समिति

Question Number : 172 Question Id : 50964713636 Question Type : MCQ Option Shuffling : Yes Display Question Number : Yes
Single Line Question Option : No Option Orientation : Vertical

Correct Marks : 1 Wrong Marks : 0.25

On which day of the menstrual cycle should oral contraceptive pills be started?

Options :

1. ✘ 1st day
2. ✘ 3rd day
3. ✔ 5th day
4. ✘ 10th day

Question Number : 172 Question Id : 50964713636 Question Type : MCQ Option Shuffling : Yes Display Question Number : Yes
Single Line Question Option : No Option Orientation : Vertical

Correct Marks : 1 Wrong Marks : 0.25

मासिक धर्म चक्र के किस दिन पर मौखिक गर्भनिरोधक गोलियां शुरू की जानी चाहिए?

Options :

1. ✘ पहला दिन
2. ✘ तीसरा दिन
3. ✔ 5 वें दिन
4. ✘ 10 वां दिन

Question Number : 173 Question Id : 50964713637 Question Type : MCQ Option Shuffling : Yes Display Question Number : Yes
Single Line Question Option : No Option Orientation : Vertical

Correct Marks : 1 Wrong Marks : 0.25

Which of the following is an air borne disease?

Options :

1. ✔ Diphtheria
2. ✘ Hepatitis B
3. ✘ Hepatitis A
4. ✘ Filaria

Question Number : 173 Question Id : 50964713637 Question Type : MCQ Option Shuffling : Yes Display Question Number : Yes
Single Line Question Option : No Option Orientation : Vertical

Correct Marks : 1 Wrong Marks : 0.25

नीचे दिए गए में से कौन सा वायु जनित रोग है?

Options :

1. ✔ डिप्थीरिया
2. ✘ हेपेटाइटिस B
3. ✘ हेपेटाइटिस A
4. ✘ फाइलेरिया

Question Number : 174 Question Id : 50964713638 Question Type : MCQ Option Shuffling : Yes Display Question Number : Yes
Single Line Question Option : No Option Orientation : Vertical

Correct Marks : 1 Wrong Marks : 0.25

'Lost to follow-up' in tuberculosis treatment means that the:

Options :

1. ✘ treatment is interrupted for 30 days
2. ✘ treatment is interrupted for 2 doses
3. ✔ treatment is interrupted for 2 consecutive months or more
4. ✘ patient dies during course of the treatment

Question Number : 174 Question Id : 50964713638 Question Type : MCQ Option Shuffling : Yes Display Question Number : Yes
Single Line Question Option : No Option Orientation : Vertical

Correct Marks : 1 Wrong Marks : 0.25

तपेदिक उपचार में 'फॉलो-अप के लिए खो गया' का अर्थ है:

Options :

1. ✘ इलाज 30 दिन तक बाधित है।
2. ✘ इलाज 2 खुराक के लिए बाधित है।
3. ✔ इलाज लगातार 2 महीने या उससे अधिक समय तक बाधित रहता है।
4. ✘ इलाज के दौरान मरीज की मृत्यु हो जाती है।

Question Number : 175 Question Id : 50964713639 Question Type : MCQ Option Shuffling : Yes Display Question Number : Yes
Single Line Question Option : No Option Orientation : Vertical

Correct Marks : 1 Wrong Marks : 0.25

The most common source of infection for botulism is:

Options :

1. ✘ contaminated water
2. ✔ canned vegetables
3. ✘ contact with infected cattle
4. ✘ rotten egg

Question Number : 175 Question Id : 50964713639 Question Type : MCQ Option Shuffling : Yes Display Question Number : Yes
Single Line Question Option : No Option Orientation : Vertical

Correct Marks : 1 Wrong Marks : 0.25

बोटुलिज़्म के लिए संक्रमण का सबसे आम स्रोत है:

Options :

1. ✘ दूषित पानी
2. ✔ डिब्बे में बंद सब्जियां
3. ✘ रोग फैलानेवाला पशु से संपर्क
4. ✘ सड़ा अंडा

Question Number : 176 Question Id : 50964713640 Question Type : MCQ Option Shuffling : Yes Display Question Number : Yes
Single Line Question Option : No Option Orientation : Vertical

Correct Marks : 1 Wrong Marks : 0.25

The free chlorine which is expected to be available after one hour of chlorination is:

Options :

1. ✔ 0.5 mg/l
2. ✘ 1 mg/l
3. ✘ 5 gm/l
4. ✘ 1 gm/l

Question Number : 176 Question Id : 50964713640 Question Type : MCQ Option Shuffling : Yes Display Question Number : Yes
Single Line Question Option : No Option Orientation : Vertical

Correct Marks : 1 Wrong Marks : 0.25

क्लोरीनीकरण के एक घंटे के बाद मुफ्त क्लोरीन उपलब्ध होने की उम्मीद है:

Options :

1. ✔ 0.5 mg/l
2. ✘ 1 mg/l
3. ✘ 5 gm/l
4. ✘ 1 gm/l

Question Number : 177 Question Id : 50964713641 Question Type : MCQ Option Shuffling : Yes Display Question Number : Yes
Single Line Question Option : No Option Orientation : Vertical

Correct Marks : 1 Wrong Marks : 0.25

Pea soup diarrhoea is feature of:

Options :

1. ✘ rotavirus diarrhoea
2. ✔ typhoid
3. ✘ cholera
4. ✘ gastritis

Question Number : 177 Question Id : 50964713641 Question Type : MCQ Option Shuffling : Yes Display Question Number : Yes
Single Line Question Option : No Option Orientation : Vertical

Correct Marks : 1 Wrong Marks : 0.25

मटर सूप दस्त _____ की विशेषता है।

Options :

1. ✘ रोटावायरस दस्त
2. ✔ टाइफाइड
3. ✘ हैजा
4. ✘ जठरशोथ

Question Number : 178 Question Id : 50964713642 Question Type : MCQ Option Shuffling : Yes Display Question Number : Yes
Single Line Question Option : No Option Orientation : Vertical

Correct Marks : 1 Wrong Marks : 0.25

A nurse asks a patient to remember an address, consisting of about four to five lines, that is not known to the patient. About 5 to 10 minutes later, she asks the patient to repeat the address. Which aspect of the patient's memory is the nurse testing?

Options :

1. ✘ Immediate memory
2. ✔ Recent memory
3. ✘ Remote memory
4. ✘ Delayed memory

Question Number : 178 Question Id : 50964713642 Question Type : MCQ Option Shuffling : Yes Display Question Number : Yes
Single Line Question Option : No Option Orientation : Vertical

Correct Marks : 1 Wrong Marks : 0.25

एक उपचारिका एक रोगी को चार से पांच पंक्तियों का पता याद करने को कहती है जो रोगी को मालूम नहीं है। 5 से 10 मिनट बाद, वह उस रोगी को वही पता दोहराने को कहती है। उपचारिका रोगी की स्मृति की किस अभिमुखता की जांच कर रही है?

Options :

1. ✘ तत्काल स्मृति
2. ✔ अभिनव (हालिया) स्मृति
3. ✘ दूरस्थ स्मृति
4. ✘ विलंबित स्मृति

Question Number : 179 Question Id : 50964713643 Question Type : MCQ Option Shuffling : Yes Display Question Number : Yes
Single Line Question Option : No Option Orientation : Vertical

Correct Marks : 1 Wrong Marks : 0.25

What is the therapeutic use of self?

Options :

1. ✘ Process of understanding one's own beliefs, thoughts and motivations
2. ✔ The ability to use one's personality consciously and in full awareness
3. ✘ Behaviours, feelings and thoughts about the individual known to him/her as well as others
4. ✘ Private things about the individual known only by him/her

Question Number : 179 Question Id : 50964713643 Question Type : MCQ Option Shuffling : Yes Display Question Number : Yes
Single Line Question Option : No Option Orientation : Vertical

Correct Marks : 1 Wrong Marks : 0.25

स्वयम् का चिकित्सीय उपयोग क्या है?

Options :

1. ✘ अपने स्वयम् के विचारों, विश्वासों और प्रेरणाओं को समझने की प्रक्रिया।
2. ✔ अपने व्यक्तित्व का जान-बूझकर और पूरी जागरूकता से उपयोग करना।
3. ✘ इंसान का वैयक्तिक आचरण, अनुभूति और विचार जो उसे और दूसरो को भी पता है।
4. ✘ वैयक्तिक निजी विचार जो सिर्फ उसी इंसान को पता है।

Question Number : 180 Question Id : 50964713644 Question Type : MCQ Option Shuffling : Yes Display Question Number : Yes
Single Line Question Option : No Option Orientation : Vertical

Correct Marks : 1 Wrong Marks : 0.25

What is the therapeutic range of blood lithium level?

Options :

1. ✘ 0.5 mEq/L to 1.5 mEq/L
2. ✘ 0.6 mEq/L to 1.0 mEq/L
3. ✔ 0.8 mEq/L to 1.2 mEq/L
4. ✘ 1.0 mEq/L to 2.0 mEq/L

Question Number : 180 Question Id : 50964713644 Question Type : MCQ Option Shuffling : Yes Display Question Number : Yes
Single Line Question Option : No Option Orientation : Vertical

Correct Marks : 1 Wrong Marks : 0.25

रक्त-लीथियम स्तर की चिकित्सीय सीमा क्या है?

Options :

1. ✘ 0.5 mEq/L से 1.5 mEq/L
2. ✘ 0.6 mEq/L से 1.0 mEq/L
3. ✔ 0.8 mEq/L से 1.2 mEq/L
4. ✘ 1.0 mEq/L से 2.0 mEq/L

Discipline5

Group Number :	10
Group Id :	509647381
Group Maximum Duration :	0
Group Minimum Duration :	120
Revisit allowed for view? :	No
Revisit allowed for edit? :	No
Break time:	0
Group Marks:	20
Revisit allowed for group Instructions? :	Yes
Maximum Instruction Time:	0
Minimum Instruction Time:	0

Discipline5

Section Id :	509647541
Section Number :	1
Section type :	Online
Mandatory or Optional:	Mandatory
Number of Questions:	20
Number of Questions to be attempted:	20
Section Marks:	20
Display Number Panel:	Yes
Group All Questions:	No

Sub-Section Number:	1
Sub-Section Id:	509647731
Question Shuffling Allowed :	Yes

Question Number : 181 Question Id : 50964713645 Question Type : MCQ Option Shuffling : Yes Display Question Number : Yes
Single Line Question Option : No Option Orientation : Vertical
Correct Marks : 1 Wrong Marks : 0.25

Bleuler's four A's of schizophrenia include all of the following, EXCEPT:

Options :

- ✘ affective disturbance
- ✘ autistic thinking
- ✘ ambivalence
- ✔ auditory hallucinations

Question Number : 181 Question Id : 50964713645 Question Type : MCQ Option Shuffling : Yes Display Question Number : Yes
Single Line Question Option : No Option Orientation : Vertical
Correct Marks : 1 Wrong Marks : 0.25

बलुलेर के विखंडित मनस्कता (स्किज़ोफ्रेनिआ) के चार A's में इनमे से सभी शामिल है सिवाय:

Options :

- ✘ आवेशी अशांति
- ✘ स्वपरायण सोच
- ✘ उभयभाविता
- ✔ श्रवण दुः स्वप्न

Question Number : 182 Question Id : 50964713646 Question Type : MCQ Option Shuffling : Yes Display Question Number : Yes
Single Line Question Option : No Option Orientation : Vertical
Correct Marks : 1 Wrong Marks : 0.25

A patient experiencing mania says, "We can, pan, ran, plan..." This can be identified as:

Options :

1. ✘ word salad
2. ✘ echolalia
3. ✔ clang association
4. ✘ elation

Question Number : 182 Question Id : 50964713646 Question Type : MCQ Option Shuffling : Yes Display Question Number : Yes
Single Line Question Option : No Option Orientation : Vertical

Correct Marks : 1 Wrong Marks : 0.25

एक रोगी उन्मत्त स्थिति में बड़बड़ाता है, "वी कैन, पैन, रैन, प्लैन ..." इसकी पहचान _____ के रूप में की जा सकती है।

Options :

1. ✘ सलाद शब्द
2. ✘ शब्दानुकरण
3. ✔ क्वणन साहचर्य
4. ✘ उल्लास

Question Number : 183 Question Id : 50964713647 Question Type : MCQ Option Shuffling : Yes Display Question Number : Yes
Single Line Question Option : No Option Orientation : Vertical

Correct Marks : 1 Wrong Marks : 0.25

What is the term used to describe an irrational fear of being in places away from the familiar setting of one's home?

Options :

1. ✘ Brontophobia
2. ✘ Claustrophobia
3. ✔ Agoraphobia
4. ✘ Acrophobia

Question Number : 183 Question Id : 50964713647 Question Type : MCQ Option Shuffling : Yes Display Question Number : Yes
Single Line Question Option : No Option Orientation : Vertical

Correct Marks : 1 Wrong Marks : 0.25

अपने घर या परिचित क्षेत्र से दूर जाने के तर्कशून्य डर का वर्णन करने के लिए कौनसे शब्द का उपयोग करते हैं?

Options :

1. ✘ ब्रॉटोफोबिया
2. ✘ संवृत्तिभीति
3. ✔ विवृत्तिभीति
4. ✘ उत्तुंगता-भीति

Question Number : 184 Question Id : 50964713648 Question Type : MCQ Option Shuffling : Yes Display Question Number : Yes
Single Line Question Option : No Option Orientation : Vertical

Correct Marks : 1 Wrong Marks : 0.25

A client expresses the feeling that armed forces are out to kill him. This could be an example of:

Options :

1. ✘ delusion of jealous
2. ✔ delusion of persecution
3. ✘ delusion of infidelity
4. ✘ delusion of grandiosity

Question Number : 184 Question Id : 50964713648 Question Type : MCQ Option Shuffling : Yes Display Question Number : Yes
Single Line Question Option : No Option Orientation : Vertical

Correct Marks : 1 Wrong Marks : 0.25

एक ग्राहक ने यह भावना व्यक्त की कि सशस्त्र बल उसकी जान लेना चाहते हैं। यह _____ का एक उदाहरण हो सकता है।

Options :

1. ✘ ईर्ष्या का विभ्रम
2. ✔ उत्पीड़न का विभ्रम
3. ✘ विश्वासघात का विभ्रम
4. ✘ भव्यता का विभ्रम

Question Number : 185 Question Id : 50964713649 Question Type : MCQ Option Shuffling : Yes Display Question Number : Yes
Single Line Question Option : No Option Orientation : Vertical

Correct Marks : 1 Wrong Marks : 0.25

Which of the following is NOT a symptom of alcohol withdrawal?

Options :

1. ✘ Tremors
2. ✘ Profuse sweating
3. ✘ Persistent insomnia
4. ✔ Redness of the face

Question Number : 185 Question Id : 50964713649 Question Type : MCQ Option Shuffling : Yes Display Question Number : Yes
Single Line Question Option : No Option Orientation : Vertical

Correct Marks : 1 Wrong Marks : 0.25

इनमें से क्या शराब प्रत्याहार (मद्यधुत निकासी) का लक्षण नहीं है?

Options :

1. ✘ कंपन
2. ✘ अत्यधिक पसीना आना
3. ✘ लगातार अनिद्रा
4. ✔ चेहरा लाल होना

Question Number : 186 Question Id : 50964713650 Question Type : MCQ Option Shuffling : Yes Display Question Number : Yes
Single Line Question Option : No Option Orientation : Vertical

Correct Marks : 1 Wrong Marks : 0.25

Distrust of other people and constant unwarranted suspicion is seen in which of the following personality disorders?

Options :

1. ✘ Schizoid personality disorder
2. ✘ Antisocial personality disorder
3. ✔ Paranoid personality disorder
4. ✘ Schizotypal personality disorder

Question Number : 186 Question Id : 50964713650 Question Type : MCQ Option Shuffling : Yes Display Question Number : Yes
Single Line Question Option : No Option Orientation : Vertical

Correct Marks : 1 Wrong Marks : 0.25

अन्य लोगों पर अविश्वास और सतत अनुचित संदेह करना इनमें से किस व्यक्तित्व विकार में देखा जाता है?

Options :

1. ✘ अभिविदलित व्यक्तित्व विकार
2. ✘ असामाजिक व्यक्तित्व विकार
3. ✔ व्यामोहाभ व्यक्तित्व विकार
4. ✘ स्किज़ोटाइपल व्यक्तित्व विकार

Question Number : 187 Question Id : 50964713651 Question Type : MCQ Option Shuffling : Yes Display Question Number : Yes
Single Line Question Option : No Option Orientation : Vertical

Correct Marks : 1 Wrong Marks : 0.25

Which of the following is NOT a sign of Alzheimer's Dementia?

Options :

1. ✘ Memory loss
2. ✘ Disorientation
3. ✘ Misplacing things
4. ✔ Loss of weight

Question Number : 187 Question Id : 50964713651 Question Type : MCQ Option Shuffling : Yes Display Question Number : Yes
Single Line Question Option : No Option Orientation : Vertical

Correct Marks : 1 Wrong Marks : 0.25

इनमे से क्या आल्जाइमर्स मनोभंश (अल्जाइमर डिमेंशिया) का लक्षण नहीं है?

Options :

1. ✘ स्मृति खोना
2. ✘ स्थितिभ्रंति
3. ✘ वस्तुओं को गलत जगह रखना
4. ✔ वजन घटना

Question Number : 188 Question Id : 50964713652 Question Type : MCQ Option Shuffling : Yes Display Question Number : Yes
Single Line Question Option : No Option Orientation : Vertical

Correct Marks : 1 Wrong Marks : 0.25

Which of the following is a risk factor for mania patients with suicide tendency?

Options :

1. ✘ Stress
2. ✘ Isolation
3. ✔ Grandiose ideas
4. ✘ Hyperactive behavior

Question Number : 188 Question Id : 50964713652 Question Type : MCQ Option Shuffling : Yes Display Question Number : Yes
Single Line Question Option : No Option Orientation : Vertical

Correct Marks : 1 Wrong Marks : 0.25

इनमें से क्या आत्मघाती प्रवृत्ति वाले उन्माद रोगियों के लिए जोखिम कारक होता है?

Options :

1. ✘ तनाव
2. ✘ विलगन
3. ✔ भव्य विचार
4. ✘ अतिसक्रिय व्यवहार

Question Number : 189 Question Id : 50964713653 Question Type : MCQ Option Shuffling : Yes Display Question Number : Yes
Single Line Question Option : No Option Orientation : Vertical

Correct Marks : 1 Wrong Marks : 0.25

Relatives of Mr. Alex admitted him to a psychiatric hospital after an application made to a magistrate supported by two medical officers. According to the Indian Mental Health Care Act, Mr. Alex got admitted under which of the following types of admission?

Options :

1. ✘ Admission under voluntary basis
2. ✔ Admission under reception order
3. ✘ Admission after inquest order
4. ✘ Admission under special case

Question Number : 189 Question Id : 50964713653 Question Type : MCQ Option Shuffling : Yes Display Question Number : Yes
Single Line Question Option : No Option Orientation : Vertical

Correct Marks : 1 Wrong Marks : 0.25

एक मैजिस्ट्रेट और दो चिकित्सा अधिकारियों के समर्थन से मिले आवेदन के बाद, अलेक्स के रिश्तेदारों ने उसे मनोविकारी अस्पताल में भर्ती किया। भारतीय मानसिक चिकित्सा स्वास्थ्य अधिनियम के अनुसार, अलेक्स को इनमें से किस प्रकार का दाखला मिला?

Options :

1. ✘ स्वैच्छिक आधार पर दाखला
2. ✔ स्वागत के आदेश पर दाखला
3. ✘ जांच के आदेश पर दाखला
4. ✘ विशेष मामले के आधार पर दाखला

Question Number : 190 Question Id : 50964713654 Question Type : MCQ Option Shuffling : Yes Display Question Number : Yes
Single Line Question Option : No Option Orientation : Vertical

Correct Marks : 1 Wrong Marks : 0.25

What is meant by thought broadcasting?

Options :

1. ✘ Unpleasant expression of thoughts
2. ✔ Delusion that one's thoughts can be heard by others
3. ✘ Delusion that one's thoughts are being controlled by others
4. ✘ Experience of thoughts being removed from one's mind

Question Number : 190 Question Id : 50964713654 Question Type : MCQ Option Shuffling : Yes Display Question Number : Yes
Single Line Question Option : No Option Orientation : Vertical

Correct Marks : 1 Wrong Marks : 0.25

सोच प्रसारण का क्या अर्थ है?

Options :

1. ✘ विचारों की अप्रिय अभिव्यक्ति
2. ✔ अपने विचार किसी और को सुनाई देने का विभ्रम
3. ✘ अपने विचार किसी और के नियंत्रण में होने का विभ्रम
4. ✘ अपने विचार मन से निकले जाने का अनुभव

Question Number : 191 Question Id : 50964713655 Question Type : MCQ Option Shuffling : Yes Display Question Number : Yes
Single Line Question Option : No Option Orientation : Vertical

Correct Marks : 1 Wrong Marks : 0.25

The purpose of social guidance is to:

Options :

1. ✘ identify learning difficulties
2. ✘ assist individuals in physical development
3. ✔ develop leadership qualities
4. ✘ help students develop hobbies

Question Number : 191 Question Id : 50964713655 Question Type : MCQ Option Shuffling : Yes Display Question Number : Yes
Single Line Question Option : No Option Orientation : Vertical

Correct Marks : 1 Wrong Marks : 0.25

सामाजिक मार्गदर्शन का उद्देश्य होता है:

Options :

1. ✘ सीखने में आने वाली कठिनाईओ को पहचानना।
2. ✘ भौतिक विकास में लोगों सहायता करना।
3. ✔ नेतृत्व के गुणों का विकास करना।
4. ✘ विद्यार्थियों में शौक को विकसित करने में सहायता करना।

Question Number : 192 Question Id : 50964713656 Question Type : MCQ Option Shuffling : Yes Display Question Number : Yes
Single Line Question Option : No Option Orientation : Vertical

Correct Marks : 1 Wrong Marks : 0.25

The subject matter, clinical experiences and practices that the faculty plans and implements for a particular group of students is called:

Options :

1. ✘ philosophy
2. ✔ curriculum
3. ✘ clinical teaching method
4. ✘ counselling

Question Number : 192 Question Id : 50964713656 Question Type : MCQ Option Shuffling : Yes Display Question Number : Yes
Single Line Question Option : No Option Orientation : Vertical

Correct Marks : 1 Wrong Marks : 0.25

जब एक संकाय विषय वस्तु, नैदानिक अनुभव और अभ्यास की छात्रों के विशेष समूह के लिए योजना करता और लागू करता है, उसे कहते हैं:

Options :

1. ✘ तत्त्वज्ञान
2. ✔ पाठ्यचर्या
3. ✘ नैदानिक शिक्षण पद्धति
4. ✘ परामर्श

Question Number : 193 Question Id : 50964713657 Question Type : MCQ Option Shuffling : Yes Display Question Number : Yes
Single Line Question Option : No Option Orientation : Vertical

Correct Marks : 1 Wrong Marks : 0.25

The supervisory style where a nursing supervisor behaves like a parent and gives constant guidance and direction to his/her subordinate(s) is called a:

Options :

1. ✘ democratic style
2. ✘ autocratic style
3. ✔ benevolent style
4. ✘ informal style

Question Number : 193 Question Id : 50964713657 Question Type : MCQ Option Shuffling : Yes Display Question Number : Yes
Single Line Question Option : No Option Orientation : Vertical

Correct Marks : 1 Wrong Marks : 0.25

पर्यवेक्षी शैली जिसमें एक उपचर्या पर्यवेक्षक, माता-पिता की तरह व्यवहार करता/करती है और उसके अधीनस्थ को सतत निर्देशन देता/देती है, उसे कहते हैं:

Options :

1. ✘ लोकतांत्रिक शैली
2. ✘ एकतंत्रीय शैली
3. ✔ उदार शैली

4. ✖ अनौपचारिक शैली

Question Number : 194 Question Id : 50964713658 Question Type : MCQ Option Shuffling : Yes Display Question Number : Yes
Single Line Question Option : No Option Orientation : Vertical
Correct Marks : 1 Wrong Marks : 0.25

The answerability of a staff nurse to his/her nursing superintendent is known as:

Options :

1. ✖ responsibility
2. ✔ accountability
3. ✖ authority
4. ✖ delegation

Question Number : 194 Question Id : 50964713658 Question Type : MCQ Option Shuffling : Yes Display Question Number : Yes
Single Line Question Option : No Option Orientation : Vertical
Correct Marks : 1 Wrong Marks : 0.25

एक उपचारिका कर्मचारी की अपने परिचर्या अधीक्षक के लिए उत्तरदायित्व को _____ कहते हैं।

Options :

1. ✖ जिम्मेदारी
2. ✔ जवाबदेही
3. ✖ प्राधिकरण
4. ✖ प्रत्यायोजन

Question Number : 195 Question Id : 50964713659 Question Type : MCQ Option Shuffling : Yes Display Question Number : Yes
Single Line Question Option : No Option Orientation : Vertical
Correct Marks : 1 Wrong Marks : 0.25

The process of analysing the intrinsic value of the material for achieving the objectives of an organisation is called:

Options :

1. ✖ inventory analysis
2. ✖ material analysis
3. ✖ buffer analysis

4. ✓ value analysis

Question Number : 195 Question Id : 50964713659 Question Type : MCQ Option Shuffling : Yes Display Question Number : Yes
Single Line Question Option : No Option Orientation : Vertical

Correct Marks : 1 Wrong Marks : 0.25

किसी पदार्थ के आंतरिक मूल्य के विश्लेषण करने की प्रक्रिया, जिससे किसी संस्था का उद्देश्यों प्राप्त हो, उसे कहते हैं:

Options :

1. ✘ वस्तुसूची विश्लेषण
2. ✘ सामग्री विश्लेषण
3. ✘ बफर विश्लेषण
4. ✓ मूल्य विश्लेषण

Question Number : 196 Question Id : 50964713660 Question Type : MCQ Option Shuffling : Yes Display Question Number : Yes
Single Line Question Option : No Option Orientation : Vertical

Correct Marks : 1 Wrong Marks : 0.25

A superior and subordinate relationship based on the number of levels of responsibility, reaching from the top to the bottom of the organisation, is known as:

Options :

1. ✘ decentralisation
2. ✘ span of control
3. ✘ unity of command
4. ✓ scalar chain

Question Number : 196 Question Id : 50964713660 Question Type : MCQ Option Shuffling : Yes Display Question Number : Yes
Single Line Question Option : No Option Orientation : Vertical

Correct Marks : 1 Wrong Marks : 0.25

एक संस्था में एक वरिष्ठ और अधीन का संबंध, जो ऊपर से नीचे तक उत्तरदायित्व के स्तरों की संख्या पर निर्भर है, उसे कहते हैं:

Options :

1. ✘ विकेन्द्रीकरण
2. ✘ नियंत्रण का विस्तार

3. ✘ समादेश की एकता

4. ✔ अदिश श्रृंखला

Question Number : 197 Question Id : 50964713661 Question Type : MCQ Option Shuffling : Yes Display Question Number : Yes
Single Line Question Option : No Option Orientation : Vertical

Correct Marks : 1 Wrong Marks : 0.25

A type of sampling method that is used whenever it is hard to locate subjects by the researcher's own self is called:

Options :

1. ✘ sequential sampling

2. ✔ snowball sampling

3. ✘ stratified random sampling

4. ✘ systematic random sampling

Question Number : 197 Question Id : 50964713661 Question Type : MCQ Option Shuffling : Yes Display Question Number : Yes
Single Line Question Option : No Option Orientation : Vertical

Correct Marks : 1 Wrong Marks : 0.25

एक प्रकार की प्रतिचयन विधि जिसका उपयोग तब करते हैं जब अनुसंधायक को ही प्रतिभागी का स्थान निर्धारण करने में कठिनाई होती है:

Options :

1. ✘ क्रमबद्ध प्रतिचयन

2. ✔ स्नोबॉल प्रतिचयन

3. ✘ स्तरित यादृच्छिक प्रतिचयन

4. ✘ व्यवस्थित यादृच्छिक प्रतिचयन

Question Number : 198 Question Id : 50964713662 Question Type : MCQ Option Shuffling : Yes Display Question Number : Yes
Single Line Question Option : No Option Orientation : Vertical

Correct Marks : 1 Wrong Marks : 0.25

The technique that measures a person's responses to unstructured stimulus is known as:

Options :

1. ✘ random technique

2. ✘ Delphi technique

3. ✓ projective technique

4. ✘ reflexive technique

Question Number : 198 Question Id : 50964713662 Question Type : MCQ Option Shuffling : Yes Display Question Number : Yes
Single Line Question Option : No Option Orientation : Vertical

Correct Marks : 1 Wrong Marks : 0.25

एक इंसान की असंरचित उत्तेजना पर प्रतिक्रियाओं को मापने की तकनीक को कहते हैं:

Options :

1. ✘ यादच्छिक तकनीक

2. ✘ डेलफी तकनीक

3. ✓ प्रक्षेपीय तकनीक

4. ✘ रिफ्लेक्सिव तकनीक

Question Number : 199 Question Id : 50964713663 Question Type : MCQ Option Shuffling : Yes Display Question Number : Yes
Single Line Question Option : No Option Orientation : Vertical

Correct Marks : 1 Wrong Marks : 0.25

In cross sectional research designs, the data:

Options :

1. ✘ is collected over a period of time

2. ✘ collected dates back to the past

3. ✘ is collected over an extended period of time

4. ✓ is collected at a particular point

Question Number : 199 Question Id : 50964713663 Question Type : MCQ Option Shuffling : Yes Display Question Number : Yes
Single Line Question Option : No Option Orientation : Vertical

Correct Marks : 1 Wrong Marks : 0.25

पार अनुभागीय अनुसंधान रचनाओं में डेटा:

Options :

1. ✘ समय की एक अवधि में एकत्र किए जाते हैं

2. ✘ अतीत में एकत्र किया गया होता है

3. ✘ विस्तारित समय में एकत्र किया जाता है

4. ✔ एक विशेष बिंदु पर एकत्र किया जाता है

Question Number : 200 Question Id : 50964713664 Question Type : MCQ Option Shuffling : Yes Display Question Number : Yes
Single Line Question Option : No Option Orientation : Vertical

Correct Marks : 1 Wrong Marks : 0.25

The measurement of numerical value of a population is called:

Options :

1. ✘ static

2. ✔ parameter

3. ✘ median

4. ✘ precision

Question Number : 200 Question Id : 50964713664 Question Type : MCQ Option Shuffling : Yes Display Question Number : Yes
Single Line Question Option : No Option Orientation : Vertical

Correct Marks : 1 Wrong Marks : 0.25

जनसंख्या का संख्यात्मक मूल्य मापने को कहते हैं:

Options :

1. ✘ स्थैतिक

2. ✔ प्राचल

3. ✘ मध्यस्थ

4. ✘ परिशुद्धता