

# Education Consultant India Ltd.

## Notations :

- 1.Options shown in green color and with ✓ icon are correct.
- 2.Options shown in red color and with ✘ icon are incorrect.

<b>Question Paper Name:</b>	Nursing Officer 30th August 2019 S1
<b>Subject Name:</b>	Nursing Officer
<b>Creation Date:</b>	2019-08-30 11:58:29
<b>Duration:</b>	120
<b>Total Marks:</b>	200
<b>Display Marks:</b>	Yes
<b>Share Answer Key With Delivery Engine:</b>	No
<b>Actual Answer Key:</b>	Yes
<b>Calculator:</b>	None
<b>Magnifying Glass Required?:</b>	No
<b>Ruler Required?:</b>	No
<b>Eraser Required?:</b>	No
<b>Scratch Pad Required?:</b>	No
<b>Rough Sketch/Notepad Required?:</b>	No
<b>Protractor Required?:</b>	No
<b>Show Watermark on Console?:</b>	Yes
<b>Highlighter:</b>	No
<b>Auto Save on Console?:</b>	No

## Mental Ability

<b>Group Number :</b>	1
<b>Group Id :</b>	966231284
<b>Group Maximum Duration :</b>	0
<b>Group Minimum Duration :</b>	0
<b>Revisit allowed for view? :</b>	No
<b>Revisit allowed for edit? :</b>	No
<b>Break time:</b>	0
<b>Group Marks:</b>	20
<b>Revisit allowed for group Instructions? :</b>	Yes
<b>Maximum Instruction Time:</b>	0
<b>Minimum Instruction Time:</b>	0

## Mental Ability

<b>Section Id :</b>	966231399
<b>Section Number :</b>	1
<b>Section type :</b>	Online
<b>Mandatory or Optional:</b>	Mandatory
<b>Number of Questions:</b>	20
<b>Number of Questions to be attempted:</b>	20
<b>Section Marks:</b>	20

Display Number Panel: Yes  
Group All Questions: No

Sub-Section Number: 1  
Sub-Section Id: 966231451  
Question Shuffling Allowed : Yes

Question Number : 1 Question Id : 9662319853 Question Type : MCQ Option Shuffling : Yes Display Question Number : Yes  
Single Line Question Option : No Option Orientation : Vertical

Correct Marks : 1 Wrong Marks : 0.25

Some letters are numbered as 1, 2, 3, 4, 5 and 6. In the options, four possible arrangements of these numbers are given. Choose the option so that the letters form a meaningful word.

T E P C O K  
1 2 3 4 5 6

Options :

1. ✘ 653421
2. ✔ 354621
3. ✘ 153625
4. ✘ 324561

Question Number : 1 Question Id : 9662319853 Question Type : MCQ Option Shuffling : Yes Display Question Number : Yes  
Single Line Question Option : No Option Orientation : Vertical

Correct Marks : 1 Wrong Marks : 0.25

कुछ अक्षरों को 1,2,3,4,5 और 6 क्रमांक दिए गए हैं। विकल्पों में, इन संख्याओं की चार संभावित व्यवस्थाएँ दी गई हैं। उस विकल्प का चयन करें ताकि अक्षर एक सार्थक शब्द बन सकें।

T E P C O K  
1 2 3 4 5 6

Options :

1. ✘ 653421
2. ✔ 354621
3. ✘ 153625
4. ✘ 324561

Question Number : 2 Question Id : 9662319854 Question Type : MCQ Option Shuffling : Yes Display Question Number : Yes  
Single Line Question Option : No Option Orientation : Vertical

Correct Marks : 1 Wrong Marks : 0.25

Out of the given options, three are similar in a certain manner. However, one option is NOT like the other three. Select the option which is different from the rest.

Options :

1. ✘ PLT
2. ✔ JMG
3. ✘ FBJ
4. ✘ NJR

Question Number : 2 Question Id : 9662319854 Question Type : MCQ Option Shuffling : Yes Display Question Number : Yes  
Single Line Question Option : No Option Orientation : Vertical

Correct Marks : 1 Wrong Marks : 0.25

दिए गए विकल्पों में से, तीन एक निश्चित तरीके से समान हैं। हालाँकि, एक विकल्प अन्य तीन की तरह नहीं है। उस विकल्प का चयन करें जो बाकी से अलग है।

Options :

1. ✘ PLT
2. ✔ JMG
3. ✘ FBJ
4. ✘ NJR

Question Number : 3 Question Id : 9662319855 Question Type : MCQ Option Shuffling : Yes Display Question Number : Yes  
Single Line Question Option : No Option Orientation : Vertical

Correct Marks : 1 Wrong Marks : 0.25

Out of the given options, three are similar in a certain manner. However, one option is NOT like the other three. Select the option which is different from the rest.

Options :

1. ✔ Manipur
2. ✘ Itanagar
3. ✘ Dispur
4. ✘ Kohima

Question Number : 3 Question Id : 9662319855 Question Type : MCQ Option Shuffling : Yes Display Question Number : Yes  
Single Line Question Option : No Option Orientation : Vertical

Correct Marks : 1 Wrong Marks : 0.25

दिए गए विकल्पों में से, तीन एक निश्चित तरीके से समान हैं। हालाँकि, एक विकल्प अन्य तीन की तरह नहीं है। उस विकल्प का चयन करें जो बाकी से अलग है।

Options :

1. ✔ मणिपुर
2. ✘ ईटानगर
3. ✘ दिसपुर
4. ✘ कोहिमा

Question Number : 4 Question Id : 9662319856 Question Type : MCQ Option Shuffling : Yes Display Question Number : Yes  
Single Line Question Option : No Option Orientation : Vertical

Correct Marks : 1 Wrong Marks : 0.25

Select the option that is related to the third term on the same basis as the second term is related to the first term.

TNE : WKH :: PMD : ?

Options :

1. ✘ BLJ
2. ✘ RKM
3. ✔ SJG
4. ✘ SPG

Question Number : 4 Question Id : 9662319856 Question Type : MCQ Option Shuffling : Yes Display Question Number : Yes  
Single Line Question Option : No Option Orientation : Vertical

Correct Marks : 1 Wrong Marks : 0.25

उस विकल्प का चयन करें जो तीसरे पद से उसी प्रकार से संबंधित है जिस प्रकार से पहला पद दूसरे पद से संबंधित है।

TNE : WKH :: PMD : ?

Options :

1. ✘ BLJ
2. ✘ RKM
3. ✔ SJG
4. ✘ SPG

Question Number : 5 Question Id : 9662319857 Question Type : MCQ Option Shuffling : Yes Display Question Number : Yes  
Single Line Question Option : No Option Orientation : Vertical

Correct Marks : 1 Wrong Marks : 0.25

If in a certain code language ABC means Party is amazing, DEC means amazing and fun, DF means fun loving, then what is the code for 'AND'?

Options :

1. ✘ C
2. ✘ B
3. ✘ D
4. ✔ E

Question Number : 5 Question Id : 9662319857 Question Type : MCQ Option Shuffling : Yes Display Question Number : Yes  
Single Line Question Option : No Option Orientation : Vertical

Correct Marks : 1 Wrong Marks : 0.25

यदि एक निश्चित कोड भाषा में, ABC का अर्थ है Party is amazing, DEC का अर्थ है amazing and fun, DF का अर्थ fun loving है, तो 'AND' के लिए कोड क्या है?

Options :

1. ✘ C
2. ✘ B
3. ✘ D
4. ✔ E

Question Number : 6 Question Id : 9662319858 Question Type : MCQ Option Shuffling : Yes Display Question Number : Yes  
Single Line Question Option : No Option Orientation : Vertical

Correct Marks : 1 Wrong Marks : 0.25

If 96431 is coded as 42110 then what will 65327 be coded as?

Options :

1. ✘ 56982
2. ✔ 11006
3. ✘ 20644
4. ✘ 13658

Question Number : 6 Question Id : 9662319858 Question Type : MCQ Option Shuffling : Yes Display Question Number : Yes  
Single Line Question Option : No Option Orientation : Vertical

Correct Marks : 1 Wrong Marks : 0.25

यदि 96431 को 42110 के रूप में कोडित किया जाता है, तो 65327 को कैसे कोडित किया जाएगा?

Options :

1. ✘ 56982
2. ✔ 11006
3. ✘ 20644
4. ✘ 13658

Question Number : 7 Question Id : 9662319859 Question Type : MCQ Option Shuffling : Yes Display Question Number : Yes  
Single Line Question Option : No Option Orientation : Vertical

**Correct Marks : 1 Wrong Marks : 0.25**

There are five friends – Seema, Krishna, Mansi, Ashi and Reema. Seema is shorter than Krishna, but taller than Reema. Mansi is the tallest. Ashi is a little shorter than Krishna and little taller than Seema. Who is the shortest among all?

**Options :**

1. ✘ Ashi
2. ✔ Reema
3. ✘ Seema
4. ✘ Krishna

**Question Number : 7 Question Id : 9662319859 Question Type : MCQ Option Shuffling : Yes Display Question Number : Yes Single Line Question Option : No Option Orientation : Vertical**

**Correct Marks : 1 Wrong Marks : 0.25**

पाँच मित्र हैं – सीमा, कृष्णा, मानसी, आशी और रीमा। सीमा कृष्णा से छोटी है, लेकिन रीमा से लंबी है। मानसी सबसे लंबी है। आशी कृष्णा से थोड़ी छोटी और सीमा से थोड़ी लंबी है। इन सब में लंबाई में सबसे छोटी कौन है?

**Options :**

1. ✘ आशी
2. ✔ रीमा
3. ✘ सीमा
4. ✘ कृष्णा

**Question Number : 8 Question Id : 9662319860 Question Type : MCQ Option Shuffling : Yes Display Question Number : Yes Single Line Question Option : No Option Orientation : Vertical**

**Correct Marks : 1 Wrong Marks : 0.25**

Read the given statement and conclusions carefully. Assuming that the information in the statement is true, even if they appear to be in variance with commonly known facts, select which of the conclusions logically follow(s) from the statement beyond reasonable doubt.

Statements:-

- I. All cars are trucks.
- II. Some trucks are buses.

Conclusions:-

- I. All buses are cars.
- II. Some cars are trucks.

**Options :**

1. ✘ Only Conclusion I follows.
2. ✘ Only Conclusion II follows.
3. ✔ Neither of the conclusion follows.
4. ✘ Both I and II follows

**Question Number : 8 Question Id : 9662319860 Question Type : MCQ Option Shuffling : Yes Display Question Number : Yes Single Line Question Option : No Option Orientation : Vertical**

**Correct Marks : 1 Wrong Marks : 0.25**

दिए गए कथन और निष्कर्षों को ध्यान से पढ़ें। यह मानते हुए कि कथन में दी गई जानकारी सत्य है, भले ही वे सामान्यतः ज्ञात तथ्यों के साथ विचरण करते हुए दिखाई देते हों, उस निष्कर्ष का चयन करें जो उचित संदेह से परे उस कथन का तार्किक रूप से अनुसरण करें।

कथन:-

- I. सभी कारें ट्रक हैं।
- II. कुछ ट्रक बस हैं।

निष्कर्ष:-

- I. सभी बसें कार हैं।
- II. कुछ कारें ट्रक हैं।

Options :

1. ✘ केवल निष्कर्ष I अनुसरण करता है।
2. ✘ केवल निष्कर्ष II अनुसरण करता है।
3. ✔ कोई भी निष्कर्ष अनुसरण नहीं करता।
4. ✘ I और II दोनों अनुसरण करते हैं।

Question Number : 9 Question Id : 9662319861 Question Type : MCQ Option Shuffling : Yes Display Question Number : Yes  
Single Line Question Option : No Option Orientation : Vertical

Correct Marks : 1 Wrong Marks : 0.25

Out of the given options, three are similar in a certain manner. However, one option is NOT like the other three. Select the option which is different from the rest.

Options :

1. ✘ 125
2. ✘ 375
3. ✔ 435
4. ✘ 525

Question Number : 9 Question Id : 9662319861 Question Type : MCQ Option Shuffling : Yes Display Question Number : Yes  
Single Line Question Option : No Option Orientation : Vertical

Correct Marks : 1 Wrong Marks : 0.25

दिए गए विकल्पों में से, तीन एक निश्चित तरीके से समान हैं। हालाँकि, एक विकल्प अन्य तीन की तरह नहीं है। उस विकल्प का चयन करें जो बाकी से अलग है।

Options :

1. ✘ 125
2. ✘ 375
3. ✔ 435
4. ✘ 525

Question Number : 10 Question Id : 9662319862 Question Type : MCQ Option Shuffling : Yes Display Question Number : Yes  
Single Line Question Option : No Option Orientation : Vertical

Correct Marks : 1 Wrong Marks : 0.25

Select the option that is related to the third number on the same basis as the second number is related to the first number.

0.14 : -7.143 :: 0.17 : ?

Options :

1. ✘ 5.882
2. ✘ 5.124
3. ✔ -5.882
4. ✘ -5.124

Question Number : 10 Question Id : 9662319862 Question Type : MCQ Option Shuffling : Yes Display Question Number : Yes  
Single Line Question Option : No Option Orientation : Vertical

Correct Marks : 1 Wrong Marks : 0.25

उस विकल्प का चयन करें जो तीसरी संख्या से उसी प्रकार से संबंधित है जिस प्रकार से दूसरी संख्या पहली संख्या से संबंधित है

$$0.14 : -7.143 :: 0.17 : ?$$

Options :

1. ✘ 5.882
2. ✘ 5.124
3. ✔ -5.882
4. ✘ -5.124

Question Number : 11 Question Id : 9662319863 Question Type : MCQ Option Shuffling : Yes Display Question Number : Yes  
Single Line Question Option : No Option Orientation : Vertical

Correct Marks : 1 Wrong Marks : 0.25

Which two signs should be interchanged to make the below equation mathematically correct?

$$7 - 3 + 12 \div 2 \times 4 = 23$$

Options :

1. ✘ -, ÷
2. ✘ +, -
3. ✘ ×, ÷
4. ✔ -, ×

Question Number : 11 Question Id : 9662319863 Question Type : MCQ Option Shuffling : Yes Display Question Number : Yes  
Single Line Question Option : No Option Orientation : Vertical

Correct Marks : 1 Wrong Marks : 0.25

नीचे दिए गए समीकरण को गणितीय रूप से सही बनाने के लिए किन दो चिन्हों को परस्पर स्थानांतरित करना चाहिए?

$$7 - 3 + 12 \div 2 \times 4 = 23$$

Options :

1. ✘ -, ÷
2. ✘ +, -
3. ✘ ×, ÷
4. ✔ -, ×

Question Number : 12 Question Id : 9662319864 Question Type : MCQ Option Shuffling : Yes Display Question Number : Yes  
Single Line Question Option : No Option Orientation : Vertical

Correct Marks : 1 Wrong Marks : 0.25

Which two numbers should be interchanged to make the below equation mathematically correct?

$$7 + 16 \div 4 \times 3 - 5 = 10$$

Options :

1. ✘ 7, 3
2. ✘ 3, 5
3. ✔ 7, 5
4. ✘ 4, 5

Question Number : 12 Question Id : 9662319864 Question Type : MCQ Option Shuffling : Yes Display Question Number : Yes  
Single Line Question Option : No Option Orientation : Vertical

Correct Marks : 1 Wrong Marks : 0.25

नीचे दिए गए समीकरण को गणितीय रूप से सही बनाने के लिए किन दो संख्याओं को स्थानांतरित किया जाना चाहिए?

$$7 + 16 \div 4 \times 3 - 5 = 10$$

Options :

1. ✘ 7, 3
2. ✘ 3, 5
3. ✔ 7, 5
4. ✘ 4, 5

Question Number : 13 Question Id : 9662319865 Question Type : MCQ Option Shuffling : Yes Display Question Number : Yes  
Single Line Question Option : No Option Orientation : Vertical

Correct Marks : 1 Wrong Marks : 0.25

Find the missing number in the following number series.

-12, -6, \_\_\_\_\_, 9, 18

Options :

1. ✘ 0
2. ✔ 1
3. ✘ 2
4. ✘ -1

Question Number : 13 Question Id : 9662319865 Question Type : MCQ Option Shuffling : Yes Display Question Number : Yes  
Single Line Question Option : No Option Orientation : Vertical

Correct Marks : 1 Wrong Marks : 0.25

निम्नलिखित संख्या श्रेणी में गायब संख्या ज्ञात करें

-12, -6, \_\_\_\_\_, 9, 18

Options :

1. ✘ 0
2. ✔ 1
3. ✘ 2
4. ✘ -1

Question Number : 14 Question Id : 9662319866 Question Type : MCQ Option Shuffling : Yes Display Question Number : Yes  
Single Line Question Option : No Option Orientation : Vertical

Correct Marks : 1 Wrong Marks : 0.25

Two numbers are 40% and 60% respectively more than a third number. What is the ratio of first number is to second number?

Options :

1. ✘ 2:3
2. ✔ 7:8
3. ✘ 8:7
4. ✘ 5:6

Question Number : 14 Question Id : 9662319866 Question Type : MCQ Option Shuffling : Yes Display Question Number : Yes  
Single Line Question Option : No Option Orientation : Vertical

Correct Marks : 1 Wrong Marks : 0.25

दो संख्याएँ एक तीसरी संख्या से क्रमशः 40% और 60% अधिक हैं। पहली संख्या का दूसरी संख्या से अनुपात क्या है?

Options :

1. ✘ 2:3



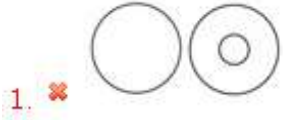
- 2. ✓ 7:8
- 3. ✗ 8:7
- 4. ✗ 5:6

Question Number : 15 Question Id : 9662319867 Question Type : MCQ Option Shuffling : Yes Display Question Number : Yes  
Single Line Question Option : No Option Orientation : Vertical

Correct Marks : 1 Wrong Marks : 0.25

Which of the following Venn diagrams best represents the relationship between stars, planets and moons?

Options :

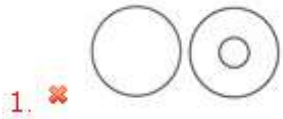


Question Number : 15 Question Id : 9662319867 Question Type : MCQ Option Shuffling : Yes Display Question Number : Yes  
Single Line Question Option : No Option Orientation : Vertical

Correct Marks : 1 Wrong Marks : 0.25

निम्न में से कौन सा वेन आरेख सितारों, ग्रहों और चंद्रमाओं के बीच के संबंध को सबसे अच्छा दर्शाता है?

Options :



Question Number : 16 Question Id : 9662319868 Question Type : MCQ Option Shuffling : Yes Display Question Number : Yes  
Single Line Question Option : No Option Orientation : Vertical

Correct Marks : 1 Wrong Marks : 0.25

A person walks 6 km towards north, then turns towards west and walks 3 km. He then turns left and walks 4 km, and then again turns left and walks for 3 km. Where is he standing now with respect to the starting point.

Options :

1. ✓ 2 km north
2. ✗ 2 km south
3. ✗ 4 km north
4. ✗ 4 km south

Question Number : 16 Question Id : 9662319868 Question Type : MCQ Option Shuffling : Yes Display Question Number : Yes  
Single Line Question Option : No Option Orientation : Vertical

Correct Marks : 1 Wrong Marks : 0.25

एक व्यक्ति उत्तर की ओर 6 km चलता है, फिर पश्चिम की ओर मुड़ता है और 3 km चलता है वह फिर बाएं ओर मुड़ता है और 4 km चलता है, और फिर बाएं ओर मुड़ता है और 3 km चलता है। शुरुआती बिंदु के संबंध में वह अब कहाँ खड़ा है।

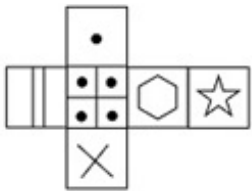
Options :

1. ✓ 2 km उत्तर
2. ✗ 2 km दक्षिण
3. ✗ 4 km उत्तर
4. ✗ 4 km दक्षिण

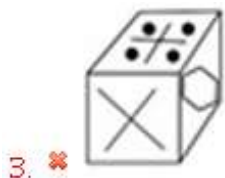
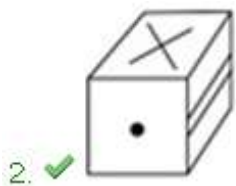
Question Number : 17 Question Id : 9662319869 Question Type : MCQ Option Shuffling : Yes Display Question Number : Yes  
Single Line Question Option : No Option Orientation : Vertical

Correct Marks : 1 Wrong Marks : 0.25

Which of the following cubes in the answer figure CANNOT be made based on the unfolded cube in the question figure?



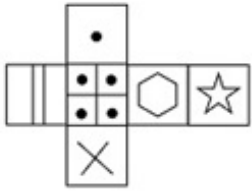
Options :



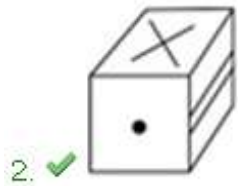
Question Number : 17 Question Id : 9662319869 Question Type : MCQ Option Shuffling : Yes Display Question Number : Yes  
 Single Line Question Option : No Option Orientation : Vertical

Correct Marks : 1 Wrong Marks : 0.25

उत्तर आकृति में किस घन को प्रश्न आकृति में प्रकट घन के आधार पर नहीं बनाया जा सकता है?



Options :

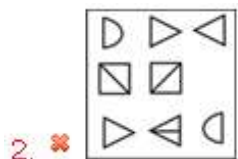
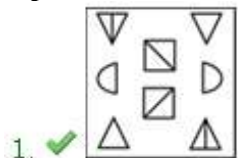


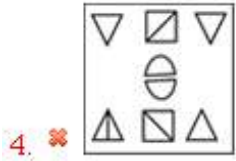
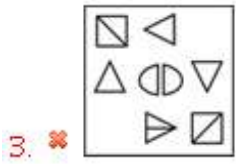
Question Number : 18 Question Id : 9662319870 Question Type : MCQ Option Shuffling : Yes Display Question Number : Yes  
 Single Line Question Option : No Option Orientation : Vertical

Correct Marks : 1 Wrong Marks : 0.25

Out of the given options, three are similar in a certain manner. However, one option is NOT like the other three. Select the option which is different from the rest.

Options :



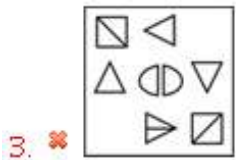
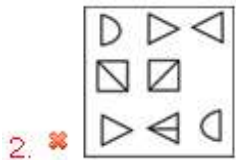
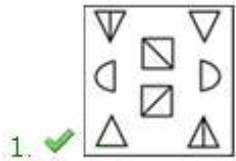


Question Number : 18 Question Id : 9662319870 Question Type : MCQ Option Shuffling : Yes Display Question Number : Yes  
Single Line Question Option : No Option Orientation : Vertical

Correct Marks : 1 Wrong Marks : 0.25

दिए गए विकल्पों में से तीन एक निश्चित तरीके से समान हैं हालाँकि, एक विकल्प अन्य तीन की तरह नहीं है उस विकल्प का चयन करें जो अन्य से अलग है

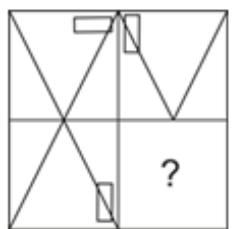
Options :



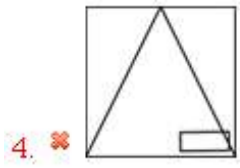
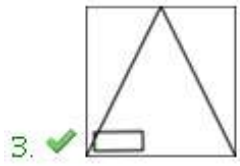
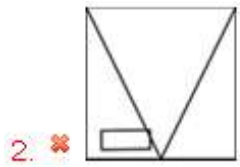
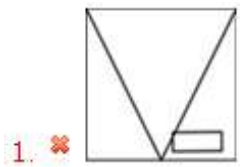
Question Number : 19 Question Id : 9662319871 Question Type : MCQ Option Shuffling : Yes Display Question Number : Yes  
Single Line Question Option : No Option Orientation : Vertical

Correct Marks : 1 Wrong Marks : 0.25

Which answer figure will complete the pattern in the question figure?



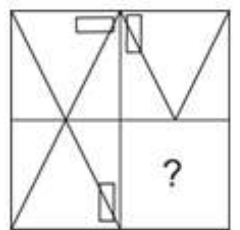
Options :



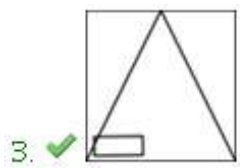
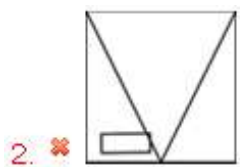
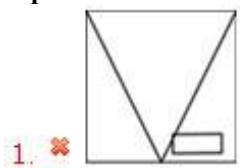
Question Number : 19 Question Id : 9662319871 Question Type : MCQ Option Shuffling : Yes Display Question Number : Yes  
Single Line Question Option : No Option Orientation : Vertical

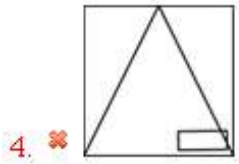
Correct Marks : 1 Wrong Marks : 0.25

कौन सी उत्तर आकृति प्रश्न आकृति में पैटर्न को पूरा करेगी?



Options :

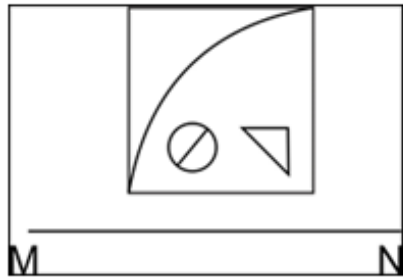




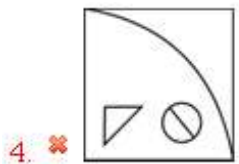
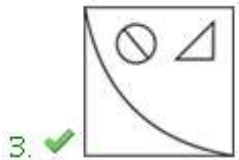
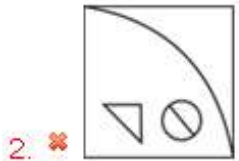
Question Number : 20 Question Id : 9662319872 Question Type : MCQ Option Shuffling : Yes Display Question Number : Yes  
Single Line Question Option : No Option Orientation : Vertical

Correct Marks : 1 Wrong Marks : 0.25

If a mirror is placed on the line MN, then which of the answer figures will be the right mirror image of the given figure?



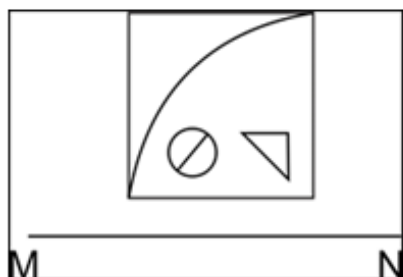
Options :



Question Number : 20 Question Id : 9662319872 Question Type : MCQ Option Shuffling : Yes Display Question Number : Yes  
Single Line Question Option : No Option Orientation : Vertical

Correct Marks : 1 Wrong Marks : 0.25

यदि एक दर्पण को रेखा MN पर रखा गया है, तो कौन सी उत्तर आकृति दी गई आकृति का सही दर्पण प्रतिबिंब होगा?



Options :



### General Awareness

Group Number :	2
Group Id :	966231285
Group Maximum Duration :	0
Group Minimum Duration :	0
Revisit allowed for view? :	No
Revisit allowed for edit? :	No
Break time:	0
Group Marks:	20
Revisit allowed for group Instructions? :	Yes
Maximum Instruction Time:	0
Minimum Instruction Time:	0

### General Awareness

Section Id :	966231400
Section Number :	1
Section type :	Online
Mandatory or Optional:	Mandatory
Number of Questions:	20
Number of Questions to be attempted:	20
Section Marks:	20
Display Number Panel:	Yes
Group All Questions:	No

Sub-Section Number:	1
Sub-Section Id:	966231452

Question Shuffling Allowed :

Yes

Question Number : 21 Question Id : 9662319873 Question Type : MCQ Option Shuffling : Yes Display Question Number : Yes  
Single Line Question Option : No Option Orientation : Vertical

Correct Marks : 1 Wrong Marks : 0.25

With which of the following states Margamkali dance is associated?

Options :

1. ✘ Madhya Pradesh
2. ✘ Rajasthan
3. ✘ Assam
4. ✔ Kerala

Question Number : 21 Question Id : 9662319873 Question Type : MCQ Option Shuffling : Yes Display Question Number : Yes  
Single Line Question Option : No Option Orientation : Vertical

Correct Marks : 1 Wrong Marks : 0.25

मारगामकली नृत्य निम्नलिखित में से किस राज्य के साथ जुड़ा है?

Options :

1. ✘ मध्य प्रदेश
2. ✘ राजस्थान
3. ✘ असम
4. ✔ केरल

Question Number : 22 Question Id : 9662319874 Question Type : MCQ Option Shuffling : Yes Display Question Number : Yes  
Single Line Question Option : No Option Orientation : Vertical

Correct Marks : 1 Wrong Marks : 0.25

Sohar folk music is related to which of the following state?

Options :

1. ✘ Himachal Pradesh
2. ✘ Madhya Pradesh
3. ✘ Jammu and Kashmir
4. ✔ Bihar

Question Number : 22 Question Id : 9662319874 Question Type : MCQ Option Shuffling : Yes Display Question Number : Yes  
Single Line Question Option : No Option Orientation : Vertical

Correct Marks : 1 Wrong Marks : 0.25

सोहर लोक संगीत निम्नलिखित में से किस राज्य से संबंधित है?

Options :

1. ✘ हिमाचल प्रदेश
2. ✘ मध्य प्रदेश
3. ✘ जम्मू और कश्मीर
4. ✔ बिहार

Question Number : 23 Question Id : 9662319875 Question Type : MCQ Option Shuffling : Yes Display Question Number : Yes  
Single Line Question Option : No Option Orientation : Vertical

Correct Marks : 1 Wrong Marks : 0.25

Jalliakattu, in which cattles are worshipped, is associated with which of the following states?

Options :

1. ✔ Tamil Nadu
2. ✘ Himachal Pradesh



3. ✖ Andhra Pradesh

4. ✖ Goa

Question Number : 23 Question Id : 9662319875 Question Type : MCQ Option Shuffling : Yes Display Question Number : Yes  
Single Line Question Option : No Option Orientation : Vertical

Correct Marks : 1 Wrong Marks : 0.25

जल्लीकट्टू, जिसमें पशुओं की पूजा की जाती है, निम्नलिखित में से किस राज्य के साथ जुड़ा है?

Options :

1. ✔ तमिल नाडु

2. ✖ हिमाचल प्रदेश

3. ✖ आंध्र प्रदेश

4. ✖ गोवा

Question Number : 24 Question Id : 9662319876 Question Type : MCQ Option Shuffling : Yes Display Question Number : Yes  
Single Line Question Option : No Option Orientation : Vertical

Correct Marks : 1 Wrong Marks : 0.25

In 1969, how many private banks were nationalised?

Options :

1. ✖ 10

2. ✖ 12

3. ✔ 14

4. ✖ 8

Question Number : 24 Question Id : 9662319876 Question Type : MCQ Option Shuffling : Yes Display Question Number : Yes  
Single Line Question Option : No Option Orientation : Vertical

Correct Marks : 1 Wrong Marks : 0.25

वर्ष 1969 में, कितने निजी बैंकों का राष्ट्रीयकरण किया गया था?

Options :

1. ✖ 10

2. ✖ 12

3. ✔ 14

4. ✖ 8

Question Number : 25 Question Id : 9662319877 Question Type : MCQ Option Shuffling : Yes Display Question Number : Yes  
Single Line Question Option : No Option Orientation : Vertical

Correct Marks : 1 Wrong Marks : 0.25

\_\_\_\_\_ is a tax imposed on manufactured goods which is levied at the time of manufacture, rather than sale.

Options :

1. ✔ Excise tax

2. ✖ Income tax

3. ✖ VAT

4. ✖ Custom duty

Question Number : 25 Question Id : 9662319877 Question Type : MCQ Option Shuffling : Yes Display Question Number : Yes  
Single Line Question Option : No Option Orientation : Vertical

Correct Marks : 1 Wrong Marks : 0.25

\_\_\_\_\_ निर्मित वस्तुओं पर लगाया जाने वाला कर है जो बिक्री के बजाय निर्माण के समय लगाया जाता है।

Options :

1. ✓ उत्पाद शुल्क
2. ✗ आयकर
3. ✗ मूल्य वर्धित कर
4. ✗ सीमा शुल्क

Question Number : 26 Question Id : 9662319878 Question Type : MCQ Option Shuffling : Yes Display Question Number : Yes  
Single Line Question Option : No Option Orientation : Vertical

Correct Marks : 1 Wrong Marks : 0.25

What is the S.I. unit of electric current?

Options :

1. ✗ joule
2. ✗ pascal
3. ✗ newton
4. ✓ ampere

Question Number : 26 Question Id : 9662319878 Question Type : MCQ Option Shuffling : Yes Display Question Number : Yes  
Single Line Question Option : No Option Orientation : Vertical

Correct Marks : 1 Wrong Marks : 0.25

विद्युत धारा की S.I इकाई क्या है?

Options :

1. ✗ जूल
2. ✗ पास्कल
3. ✗ न्यूटन
4. ✓ एम्पियर

Question Number : 27 Question Id : 9662319879 Question Type : MCQ Option Shuffling : Yes Display Question Number : Yes  
Single Line Question Option : No Option Orientation : Vertical

Correct Marks : 1 Wrong Marks : 0.25

Which of the following enzymes converts starch to soluble sugars?

Options :

1. ✗ Betaine Enzyme
2. ✗ Proteolytic Enzyme
3. ✓ Amylase Enzyme
4. ✗ Bromelain Enzyme

Question Number : 27 Question Id : 9662319879 Question Type : MCQ Option Shuffling : Yes Display Question Number : Yes  
Single Line Question Option : No Option Orientation : Vertical

Correct Marks : 1 Wrong Marks : 0.25

निम्नलिखित में से कौन सा एंजाइम मंड (स्टार्च) को घुलनशील शर्करा में परिवर्तित करता है?

Options :

1. ✗ बीटेन एंजाइम
2. ✗ प्रोटियोलिटिक एंजाइम
3. ✓ एमाइलेज एंजाइम
4. ✗ ब्रोमेलैन एंजाइम

Question Number : 28 Question Id : 9662319880 Question Type : MCQ Option Shuffling : Yes Display Question Number : Yes  
Single Line Question Option : No Option Orientation : Vertical

Correct Marks : 1 Wrong Marks : 0.25

Which country does not form a part of the Middle East?

Options :

- ✘ Iran
- ✘ Yemen
- ✘ Egypt
- ✔ Panama

Question Number : 28 Question Id : 9662319880 Question Type : MCQ Option Shuffling : Yes Display Question Number : Yes  
Single Line Question Option : No Option Orientation : Vertical

Correct Marks : 1 Wrong Marks : 0.25

कौन सा देश मध्य पूर्व का हिस्सा नहीं बनता?

Options :

- ✘ ईरान
- ✘ यमन
- ✘ मिस्र
- ✔ पनामा

Question Number : 29 Question Id : 9662319881 Question Type : MCQ Option Shuffling : Yes Display Question Number : Yes  
Single Line Question Option : No Option Orientation : Vertical

Correct Marks : 1 Wrong Marks : 0.25

In which of the following states is the Supa Dam located?

Options :

- ✔ Karnataka
- ✘ Assam
- ✘ Maharashtra
- ✘ Gujarat

Question Number : 29 Question Id : 9662319881 Question Type : MCQ Option Shuffling : Yes Display Question Number : Yes  
Single Line Question Option : No Option Orientation : Vertical

Correct Marks : 1 Wrong Marks : 0.25

सुपा बांध निम्नलिखित में से किस राज्य में स्थित है?

Options :

- ✔ कर्नाटक
- ✘ असम
- ✘ महाराष्ट्र
- ✘ गुजरात

Question Number : 30 Question Id : 9662319882 Question Type : MCQ Option Shuffling : Yes Display Question Number : Yes  
Single Line Question Option : No Option Orientation : Vertical

Correct Marks : 1 Wrong Marks : 0.25

Which among the following mountain ranges is located in Australia?

Options :

- ✘ The Alps
- ✘ The Rockies
- ✔ The Great Dividing Range
- ✘ Drakensburg

Question Number : 30 Question Id : 9662319882 Question Type : MCQ Option Shuffling : Yes Display Question Number : Yes  
Single Line Question Option : No Option Orientation : Vertical

Correct Marks : 1 Wrong Marks : 0.25

निम्नलिखित में से कौन सी पर्वत श्रृंखला ऑस्ट्रेलिया में स्थित है?

Options :

1. ✘ आल्प्स
2. ✘ द रॉकीज
3. ✔ ग्रेट डिवाइडिंग रेंज
4. ✘ ड्रेकेंस्बर्ग

Question Number : 31 Question Id : 9662319883 Question Type : MCQ Option Shuffling : Yes Display Question Number : Yes  
Single Line Question Option : No Option Orientation : Vertical

Correct Marks : 1 Wrong Marks : 0.25

Who found the new face of the Indian Independence League in 1942 in Tokyo?

Options :

1. ✘ Subash Chandra Bose
2. ✘ Jawaharlal Nehru
3. ✘ Mohan Singh
4. ✔ Rash Behari Bose

Question Number : 31 Question Id : 9662319883 Question Type : MCQ Option Shuffling : Yes Display Question Number : Yes  
Single Line Question Option : No Option Orientation : Vertical

Correct Marks : 1 Wrong Marks : 0.25

1942 में टोक्यो में भारतीय स्वतंत्रता लीग का नया चेहरा किसे मिला था?

Options :

1. ✘ सुभाष चंद्र बोस
2. ✘ जवाहरलाल नेहरू
3. ✘ मोहन सिंह
4. ✔ रासबिहारी बोस

Question Number : 32 Question Id : 9662319884 Question Type : MCQ Option Shuffling : Yes Display Question Number : Yes  
Single Line Question Option : No Option Orientation : Vertical

Correct Marks : 1 Wrong Marks : 0.25

Who was the last king of the Nanda Dynasty?

Options :

1. ✔ Dhana Nanda
2. ✘ Mahapadma Nanda
3. ✘ Kaivarta Nanda
4. ✘ Panduka Nanda

Question Number : 32 Question Id : 9662319884 Question Type : MCQ Option Shuffling : Yes Display Question Number : Yes  
Single Line Question Option : No Option Orientation : Vertical

Correct Marks : 1 Wrong Marks : 0.25

नंद वंश का अंतिम राजा कौन था?

Options :

1. ✔ धना नंद
2. ✘ महापद्म नंद
3. ✘ कैवर्त नंद
4. ✘ पांडुका नंद

Question Number : 33 Question Id : 9662319885 Question Type : MCQ Option Shuffling : Yes Display Question Number : Yes  
Single Line Question Option : No Option Orientation : Vertical

Correct Marks : 1 Wrong Marks : 0.25

The famous Bibi ka Maqbara in Aurangabad was built by \_\_\_\_\_.

Options :

1. ✘ Nur Jahan
2. ✘ Shah Jahan
3. ✘ Jahangir
4. ✔ Azam Shah

Question Number : 33 Question Id : 9662319885 Question Type : MCQ Option Shuffling : Yes Display Question Number : Yes  
Single Line Question Option : No Option Orientation : Vertical

Correct Marks : 1 Wrong Marks : 0.25

औरंगाबाद का प्रसिद्ध बीबी का मक़बरा \_\_\_\_\_ द्वारा बनवाया गया था।

Options :

1. ✘ नूर जहाँ
2. ✘ शाह जहाँ
3. ✘ जहाँगीर
4. ✔ आजम शाह

Question Number : 34 Question Id : 9662319886 Question Type : MCQ Option Shuffling : Yes Display Question Number : Yes  
Single Line Question Option : No Option Orientation : Vertical

Correct Marks : 1 Wrong Marks : 0.25

When was World Trade Organisation (WTO) established?

Options :

1. ✘ 1997
2. ✔ 1995
3. ✘ 1998
4. ✘ 1990

Question Number : 34 Question Id : 9662319886 Question Type : MCQ Option Shuffling : Yes Display Question Number : Yes  
Single Line Question Option : No Option Orientation : Vertical

Correct Marks : 1 Wrong Marks : 0.25

विश्व व्यापार संगठन (WTO) की स्थापना कब हुई थी?

Options :

1. ✘ 1997
2. ✔ 1995
3. ✘ 1998
4. ✘ 1990

Question Number : 35 Question Id : 9662319887 Question Type : MCQ Option Shuffling : Yes Display Question Number : Yes  
Single Line Question Option : No Option Orientation : Vertical

Correct Marks : 1 Wrong Marks : 0.25

In which year was the Padma Award started?

Options :

1. ✘ 1950
2. ✔ 1954
3. ✘ 1952
4. ✘ 1953

Question Number : 35 Question Id : 9662319887 Question Type : MCQ Option Shuffling : Yes Display Question Number : Yes  
Single Line Question Option : No Option Orientation : Vertical

Correct Marks : 1 Wrong Marks : 0.25

पद्म पुरस्कार किस वर्ष में शुरू किया गया था?

Options :

1. ✘ 1950

2. ✔ 1954

3. ✘ 1952

4. ✘ 1953

Question Number : 36 Question Id : 9662319888 Question Type : MCQ Option Shuffling : Yes Display Question Number : Yes  
Single Line Question Option : No Option Orientation : Vertical

Correct Marks : 1 Wrong Marks : 0.25

With which of the following amendments was Pondicherry incorporated into the Union of India?

Options :

1. ✔ 14

2. ✘ 21

3. ✘ 13

4. ✘ 12

Question Number : 36 Question Id : 9662319888 Question Type : MCQ Option Shuffling : Yes Display Question Number : Yes  
Single Line Question Option : No Option Orientation : Vertical

Correct Marks : 1 Wrong Marks : 0.25

निम्नलिखित में से किस संशोधन के साथ पुदुच्चेरी को भारत संघ में निगमित किया गया था?

Options :

1. ✔ 14

2. ✘ 21

3. ✘ 13

4. ✘ 12

Question Number : 37 Question Id : 9662319889 Question Type : MCQ Option Shuffling : Yes Display Question Number : Yes  
Single Line Question Option : No Option Orientation : Vertical

Correct Marks : 1 Wrong Marks : 0.25

The method of election of the president in Indian Constitution is borrowed from the constitution of \_\_\_\_\_.

Options :

1. ✘ France

2. ✘ USSR

3. ✘ Britain

4. ✔ Ireland

Question Number : 37 Question Id : 9662319889 Question Type : MCQ Option Shuffling : Yes Display Question Number : Yes  
Single Line Question Option : No Option Orientation : Vertical

Correct Marks : 1 Wrong Marks : 0.25

भारतीय संविधान में राष्ट्रपति के चुनाव की विधि \_\_\_\_\_ के संविधान से अपनाई गई है।

Options :

1. ✘ फ्रांस

2. ✘ सोवियत समाजवादी गणतंत्रों का संघ

3. ✘ ब्रिटेन

4. ✔ आयरलैंड

Question Number : 38 Question Id : 9662319890 Question Type : MCQ Option Shuffling : Yes Display Question Number : Yes  
Single Line Question Option : No Option Orientation : Vertical

Correct Marks : 1 Wrong Marks : 0.25

The \_\_\_\_\_ schedule of the Indian Constitution contains provisions for the allocation of seats in the Council of States.

Options :

1. ✘ Third
2. ✔ Fourth
3. ✘ Tenth
4. ✘ Ninth

Question Number : 38 Question Id : 9662319890 Question Type : MCQ Option Shuffling : Yes Display Question Number : Yes  
Single Line Question Option : No Option Orientation : Vertical

Correct Marks : 1 Wrong Marks : 0.25

भारतीय संविधान की \_\_\_\_\_ अनुसूची में राज्यों की परिषद में सीटों के आवंटन के प्रावधान हैं।

Options :

1. ✘ तीसरी
2. ✔ चौथी
3. ✘ दसवीं
4. ✘ नौवीं

Question Number : 39 Question Id : 9662319891 Question Type : MCQ Option Shuffling : Yes Display Question Number : Yes  
Single Line Question Option : No Option Orientation : Vertical

Correct Marks : 1 Wrong Marks : 0.25

Which among the following teams was the first one to win the Hockey World Cup?

Options :

1. ✘ India
2. ✘ South Africa
3. ✘ England
4. ✔ Pakistan

Question Number : 39 Question Id : 9662319891 Question Type : MCQ Option Shuffling : Yes Display Question Number : Yes  
Single Line Question Option : No Option Orientation : Vertical

Correct Marks : 1 Wrong Marks : 0.25

निम्नलिखित में से कौन सी टीम हॉकी विश्व कप जीतने वाली पहली टीम थी?

Options :

1. ✘ भारत
2. ✘ दक्षिण अफ्रीका
3. ✘ इंग्लैंड
4. ✔ पाकिस्तान

Question Number : 40 Question Id : 9662319892 Question Type : MCQ Option Shuffling : Yes Display Question Number : Yes  
Single Line Question Option : No Option Orientation : Vertical

Correct Marks : 1 Wrong Marks : 0.25

Who among the following bowlers have taken the most wickets in their career during test matches?

Options :

1. ✘ Anil Kumble
2. ✘ Shane Warne

3. ✘ Dale Steyn

4. ✔ M. Muralitharan

Question Number : 40 Question Id : 9662319892 Question Type : MCQ Option Shuffling : Yes Display Question Number : Yes  
Single Line Question Option : No Option Orientation : Vertical

Correct Marks : 1 Wrong Marks : 0.25

निम्नलिखित में से किस गेंदबाज ने टेस्ट मैचों के दौरान अपने करियर के सर्वाधिक विकेट लिए हैं?

Options :

1. ✘ अनिल कुंबले

2. ✘ शेन वॉर्न

3. ✘ डेल स्टेन

4. ✔ मुथैया मुरलीधरन

#### Arithmetic Ability

Group Number :	3
Group Id :	966231286
Group Maximum Duration :	0
Group Minimum Duration :	0
Revisit allowed for view? :	No
Revisit allowed for edit? :	No
Break time:	0
Group Marks:	20
Revisit allowed for group Instructions? :	Yes
Maximum Instruction Time:	0
Minimum Instruction Time:	0

#### Arithmetic Ability

Section Id :	966231401
Section Number :	1
Section type :	Online
Mandatory or Optional:	Mandatory
Number of Questions:	20
Number of Questions to be attempted:	20
Section Marks:	20
Display Number Panel:	Yes
Group All Questions:	No

Sub-Section Number:	1
Sub-Section Id:	966231453
Question Shuffling Allowed :	Yes

Question Number : 41 Question Id : 9662319893 Question Type : MCQ Option Shuffling : Yes Display Question Number : Yes  
Single Line Question Option : No Option Orientation : Vertical

Correct Marks : 1 Wrong Marks : 0.25

To fill a bucket, 25 mugs of water is required. How many mugs of water will be required to fill the bucket if the capacity of the mug is reduced to two-fifth of its present?

Options :



1. ✘ 50
2. ✘ 57.5
3. ✘ 60
4. ✔ 62.5

**Question Number : 41 Question Id : 9662319893 Question Type : MCQ Option Shuffling : Yes Display Question Number : Yes Single Line Question Option : No Option Orientation : Vertical**

**Correct Marks : 1 Wrong Marks : 0.25**

एक बाल्टी भरने के लिए 25 मग पानी की आवश्यकता होती है। यदि मग की क्षमता उसकी वर्तमान क्षमता के दो- बरा-पाँचवें हिस्से तक कम कर दी जाए तो बाल्टी को भरने के लिए कितने मग पानी की आवश्यकता होगी?

**Options :**

1. ✘ 50
2. ✘ 57.5
3. ✘ 60
4. ✔ 62.5

**Question Number : 42 Question Id : 9662319894 Question Type : MCQ Option Shuffling : Yes Display Question Number : Yes Single Line Question Option : No Option Orientation : Vertical**

**Correct Marks : 1 Wrong Marks : 0.25**

What is the least number that should be added to 2560 so that the sum is exactly divisible by 3, 5, 8 and 15?

**Options :**

1. ✘ 40
2. ✘ 60
3. ✔ 80
4. ✘ 100

**Question Number : 42 Question Id : 9662319894 Question Type : MCQ Option Shuffling : Yes Display Question Number : Yes Single Line Question Option : No Option Orientation : Vertical**

**Correct Marks : 1 Wrong Marks : 0.25**

2560 में कौनसी सबसे छोटी संख्या को जोड़ा जाना चाहिए ताकि योग 3, 5, 8 और 15 से पूर्णतया विभाज्य हो?

**Options :**

1. ✘ 40
2. ✘ 60
3. ✔ 80
4. ✘ 100

**Question Number : 43 Question Id : 9662319895 Question Type : MCQ Option Shuffling : Yes Display Question Number : Yes Single Line Question Option : No Option Orientation : Vertical**

**Correct Marks : 1 Wrong Marks : 0.25**

If  $125/1.25 = 12.5/x$ , then what is the value of x?

**Options :**

1. ✘ 0.0125
2. ✘ 12.5
3. ✔ 0.125
4. ✘ 1.25

**Question Number : 43 Question Id : 9662319895 Question Type : MCQ Option Shuffling : Yes Display Question Number : Yes Single Line Question Option : No Option Orientation : Vertical**

**Correct Marks : 1 Wrong Marks : 0.25**

यदि  $125/1.25 = 12.5/x$  है, तो  $x$  का मूल्य क्या है?

Options :

1. ✘ 0.0125
2. ✘ 12.5
3. ✔ 0.125
4. ✘ 1.25

Question Number : 44 Question Id : 9662319896 Question Type : MCQ Option Shuffling : Yes Display Question Number : Yes  
Single Line Question Option : No Option Orientation : Vertical

Correct Marks : 1 Wrong Marks : 0.25

In the first 20 overs of a game, the run rate was 6.2, what should be the run rate in the next 30 overs to reach the target of 360 runs?

Options :

1. ✔ 7.87
2. ✘ 7.66
3. ✘ 7.92
4. ✘ 8.02

Question Number : 44 Question Id : 9662319896 Question Type : MCQ Option Shuffling : Yes Display Question Number : Yes  
Single Line Question Option : No Option Orientation : Vertical

Correct Marks : 1 Wrong Marks : 0.25

खेल के पहले 20 ओवरों में, रन रेट 6.2 था, 360 रन के लक्ष्य तक पहुंचने के लिए अगले 30 ओवरों में रन रेट क्या होना चाहिए?

Options :

1. ✔ 7.87
2. ✘ 7.66
3. ✘ 7.92
4. ✘ 8.02

Question Number : 45 Question Id : 9662319897 Question Type : MCQ Option Shuffling : Yes Display Question Number : Yes  
Single Line Question Option : No Option Orientation : Vertical

Correct Marks : 1 Wrong Marks : 0.25

The marked price of an article is Rs. 1500. After allowing a certain discount, it is sold at Rs. 1320. Find the discount percentage?

Options :

1. ✘ 10 percent
2. ✘ 12 percent
3. ✔ 15 percent
4. ✘ 18 percent

Question Number : 45 Question Id : 9662319897 Question Type : MCQ Option Shuffling : Yes Display Question Number : Yes  
Single Line Question Option : No Option Orientation : Vertical

Correct Marks : 1 Wrong Marks : 0.25

एक वस्तु की चिह्नित कीमत 1500 रुपये है। एक निश्चित छूट देने के बाद, इसे 1320 रुपये में बेचा जाता है। छूट प्रतिशत ज्ञात करें?

Options :

1. ✘ 10 प्रतिशत
2. ✘ 12 प्रतिशत
3. ✔ 15 प्रतिशत
4. ✘ 18 प्रतिशत

Question Number : 46 Question Id : 9662319898 Question Type : MCQ Option Shuffling : Yes Display Question Number : Yes  
Single Line Question Option : No Option Orientation : Vertical

Correct Marks : 1 Wrong Marks : 0.25

A student scores 92% in an examination. His scores were 89, 99, 88, 92 in 4 subjects. Find his score in the 5th subject.

Options :

1. ✘ 94
2. ✘ 96
3. ✔ 92
4. ✘ 100

Question Number : 46 Question Id : 9662319898 Question Type : MCQ Option Shuffling : Yes Display Question Number : Yes  
Single Line Question Option : No Option Orientation : Vertical

Correct Marks : 1 Wrong Marks : 0.25

एक छात्र परीक्षा में 92% अंक प्राप्त करता है। 4 विषयों में उनके अंक 89, 99, 88, 92 थे। 5 वें विषय में उसके अंक ज्ञात करें।

Options :

1. ✘ 94
2. ✘ 96
3. ✔ 92
4. ✘ 100

Question Number : 47 Question Id : 9662319899 Question Type : MCQ Option Shuffling : Yes Display Question Number : Yes  
Single Line Question Option : No Option Orientation : Vertical

Correct Marks : 1 Wrong Marks : 0.25

A batsman scored 90 runs in a cricket match. He hit 10 fours and 5 sixes during his innings. What percent of his runs was scored in boundaries?

Options :

1. ✔ 77.77 percent
2. ✘ 55.55 percent
3. ✘ 66.67 percent
4. ✘ 83.33 percent

Question Number : 47 Question Id : 9662319899 Question Type : MCQ Option Shuffling : Yes Display Question Number : Yes  
Single Line Question Option : No Option Orientation : Vertical

Correct Marks : 1 Wrong Marks : 0.25

एक बल्लेबाज ने एक क्रिकेट मैच में 90 रन बनाए। उन्होंने अपनी पारी के दौरान 10 चौके और 5 छक्के लगाए। उनके कितने प्रतिशत रन सीमाओं में थे?

Options :

1. ✔ 77.77 प्रतिशत
2. ✘ 55.55 प्रतिशत
3. ✘ 66.67 प्रतिशत
4. ✘ 83.33 प्रतिशत

Question Number : 48 Question Id : 9662319900 Question Type : MCQ Option Shuffling : Yes Display Question Number : Yes  
Single Line Question Option : No Option Orientation : Vertical

Correct Marks : 1 Wrong Marks : 0.25

X bought goods worth Rs. 500. He gets a rebate of 8% on it. After getting the rebate, he pays sales tax @ 12.5%. What is the final amount that he has to pay?

Options :

1. ✘ Rs. 512

2. ✘ Rs. 515
3. ✔ Rs. 517.5
4. ✘ Rs. 520

Question Number : 48 Question Id : 9662319900 Question Type : MCQ Option Shuffling : Yes Display Question Number : Yes  
Single Line Question Option : No Option Orientation : Vertical

Correct Marks : 1 Wrong Marks : 0.25

X ने 500 रुपये का सामान खरीदा। उसे उस पर 8% की छूट मिलती है। छूट मिलने के बाद, वह 12.5% पर बिक्री कर का भुगतान करता है। वह अंतिम धनराशि क्या है जिसका उसे भुगतान करना है?

Options :

1. ✘ 512 रुपये
2. ✘ 515 रुपये
3. ✔ 517.5 रुपये
4. ✘ 520 रुपये

Question Number : 49 Question Id : 9662319901 Question Type : MCQ Option Shuffling : Yes Display Question Number : Yes  
Single Line Question Option : No Option Orientation : Vertical

Correct Marks : 1 Wrong Marks : 0.25

If an article was bought for Rs. 800 and a repairing charge of Rs. 50 was paid for it and it is supposed to be sold at a profit of 25% on the marked price which is 50% added on the cost price. Find the required selling price.

Options :

1. ✔ Rs. 1593.75
2. ✘ Rs. 1573.75
3. ✘ Rs. 1673.25
4. ✘ Rs. 1623.25

Question Number : 49 Question Id : 9662319901 Question Type : MCQ Option Shuffling : Yes Display Question Number : Yes  
Single Line Question Option : No Option Orientation : Vertical

Correct Marks : 1 Wrong Marks : 0.25

यदि एक वस्तु 800 रुपये में खरीदी गई और इसके मरम्मत के लिए 50 रुपये अदा किए गए और इसे अंकित मूल्य पर 25% के लाभ पर बेचा जाना तय हुआ, जो लागत मूल्य से 50% अधिक है। आवश्यक विक्रय मूल्य ज्ञात करें।

Options :

1. ✔ 1593.75 रुपये
2. ✘ 1573.75 रुपये
3. ✘ 1673.25 रुपये
4. ✘ 1623.25 रुपये

Question Number : 50 Question Id : 9662319902 Question Type : MCQ Option Shuffling : Yes Display Question Number : Yes  
Single Line Question Option : No Option Orientation : Vertical

Correct Marks : 1 Wrong Marks : 0.25

A school has 800 students with the ratio of boys:girls being 3:2. 400 new students were given admission and the ratio changed to 13:7. Find the number of boys who had taken admission.

Options :

1. ✔ 300
2. ✘ 320
3. ✘ 280
4. ✘ 350

Question Number : 50 Question Id : 9662319902 Question Type : MCQ Option Shuffling : Yes Display Question Number : Yes  
Single Line Question Option : No Option Orientation : Vertical

Correct Marks : 1 Wrong Marks : 0.25

एक स्कूल में लड़कों और लड़कियों के 3:2 के अनुपात में 800 छात्र हैं। 400 नए छात्रों को प्रवेश दिया गया और यह अनुपात बदलकर 13:7 हो गया। उन लड़कों की संख्या ज्ञात करें, जिन्होंने प्रवेश लिया था।

Options :

1. ✓ 300
2. ✗ 320
3. ✗ 280
4. ✗ 350

Question Number : 51 Question Id : 9662319903 Question Type : MCQ Option Shuffling : Yes Display Question Number : Yes  
Single Line Question Option : No Option Orientation : Vertical

Correct Marks : 1 Wrong Marks : 0.25

A and B together have Rs. 3000. If  $\frac{2}{3}$  of A's amount is equal to  $\frac{4}{9}$  of B's amount, how much does B have?

Options :

1. ✗ Rs. 1200
2. ✗ Rs. 1500
3. ✓ Rs. 1800
4. ✗ Rs. 1950

Question Number : 51 Question Id : 9662319903 Question Type : MCQ Option Shuffling : Yes Display Question Number : Yes  
Single Line Question Option : No Option Orientation : Vertical

Correct Marks : 1 Wrong Marks : 0.25

A और B के पास मिलाकर 3000 रुपये हैं। यदि A की धनराशि का  $\frac{2}{3}$  भाग B की धनराशि के  $\frac{4}{9}$  भाग के बराबर है, तो B के पास कितना रुपये है?

Options :

1. ✗ 1200 रुपये
2. ✗ 1500 रुपये
3. ✓ 1800 रुपये
4. ✗ 1950 रुपये

Question Number : 52 Question Id : 9662319904 Question Type : MCQ Option Shuffling : Yes Display Question Number : Yes  
Single Line Question Option : No Option Orientation : Vertical

Correct Marks : 1 Wrong Marks : 0.25

Two numbers are in the ratio 2:3, 10 is subtracted from each of the numbers and the ratio becomes 3:5. Find the bigger number.

Options :

1. ✗ 20
2. ✓ 60
3. ✗ 40
4. ✗ 80

Question Number : 52 Question Id : 9662319904 Question Type : MCQ Option Shuffling : Yes Display Question Number : Yes  
Single Line Question Option : No Option Orientation : Vertical

Correct Marks : 1 Wrong Marks : 0.25

दो संख्याएँ 2:3 के अनुपात में हैं और प्रत्येक संख्या में से 10 घटाया जाता है जिससे यह अनुपात 3:5 हो जाता है। उनमें से बड़ी संख्या ज्ञात करें।

Options :

1. ✗ 20
2. ✓ 60

3. ✖ 40

4. ✖ 80

Question Number : 53 Question Id : 9662319905 Question Type : MCQ Option Shuffling : Yes Display Question Number : Yes  
Single Line Question Option : No Option Orientation : Vertical

Correct Marks : 1 Wrong Marks : 0.25

X invested an amount of Rs. 16000 in a fixed deposit for 2 years at compound interest rate of 12% p.a. How much amount will he receive at maturity?

Options :

1. ✖ Rs. 19,200

2. ✔ Rs. 20,070.4

3. ✖ Rs. 17920

4. ✖ Rs. 18,540.6

Question Number : 53 Question Id : 9662319905 Question Type : MCQ Option Shuffling : Yes Display Question Number : Yes  
Single Line Question Option : No Option Orientation : Vertical

Correct Marks : 1 Wrong Marks : 0.25

X ने 12% प्रति वर्ष के चक्रवृद्धि ब्याज दर पर 2 वर्षों के लिए सावधि जमा में 16,000 रुपये की धनराशि का निवेश किया। परिपक्वता पर उसे कितनी धनराशि मिलेगी?

Options :

1. ✖ 19,200 रुपये

2. ✔ 20,070.4 रुपये

3. ✖ 17920 रुपये

4. ✖ 18,540.6 रुपये

Question Number : 54 Question Id : 9662319906 Question Type : MCQ Option Shuffling : Yes Display Question Number : Yes  
Single Line Question Option : No Option Orientation : Vertical

Correct Marks : 1 Wrong Marks : 0.25

In a flight of 1800 km, an aircraft was slowed down due to bad weather. Its average speed for the trip was reduced by 300 km/h and the time of flight was increased by 3 hours. What was the original duration of the flight?

Options :

1. ✖ 4 hours

2. ✖ 5 hours

3. ✔ 3 hours

4. ✖ 6 hours

Question Number : 54 Question Id : 9662319906 Question Type : MCQ Option Shuffling : Yes Display Question Number : Yes  
Single Line Question Option : No Option Orientation : Vertical

Correct Marks : 1 Wrong Marks : 0.25

1800 km की उड़ान में, एक विमान खराब मौसम के कारण धीमा हो गया था। यात्रा के लिए इसकी औसत गति 300 किमी / घंटा कम हो गई थी और उड़ान के समय में 3 घंटे की वृद्धि हुई थी। उड़ान की मूल अवधि क्या थी?

Options :

1. ✖ 4 घंटे

2. ✖ 5 घंटे

3. ✔ 3 घंटे

4. ✖ 6 घंटे

Question Number : 55 Question Id : 9662319907 Question Type : MCQ Option Shuffling : Yes Display Question Number : Yes  
Single Line Question Option : No Option Orientation : Vertical

Correct Marks : 1 Wrong Marks : 0.25

If A can do a work in 84 days and B is twice as efficient as A. In how many days more will the work be completed if B joins A on the 22nd day?

Options :

1. ✘ 10.5
2. ✘ 16.5
3. ✘ 20
4. ✔ 21

Question Number : 55 Question Id : 9662319907 Question Type : MCQ Option Shuffling : Yes Display Question Number : Yes  
Single Line Question Option : No Option Orientation : Vertical

Correct Marks : 1 Wrong Marks : 0.25

A 84 दिनों में एक कार्य कर सकता है और B, A से दोगुना कुशल है यदि B 22 वें दिन A के साथ शामिल होता है, तो वह कार्य कितने दिनों में पूरा होगा?

Options :

1. ✘ 10.5
2. ✘ 16.5
3. ✘ 20
4. ✔ 21

Question Number : 56 Question Id : 9662319908 Question Type : MCQ Option Shuffling : Yes Display Question Number : Yes  
Single Line Question Option : No Option Orientation : Vertical

Correct Marks : 1 Wrong Marks : 0.25

A, B and C can do a job in 30, 40 and 48 days respectively. In how many days can A do the work if he is assisted by B and C every third day?

Options :

1. ✔ 20.57
2. ✘ 21
3. ✘ 21.14
4. ✘ 20.14

Question Number : 56 Question Id : 9662319908 Question Type : MCQ Option Shuffling : Yes Display Question Number : Yes  
Single Line Question Option : No Option Orientation : Vertical

Correct Marks : 1 Wrong Marks : 0.25

A, B और C क्रमशः 30, 40 और 48 दिनों में एक काम कर सकते हैं यदि B और C द्वारा हर तीसरे दिन सहायता की जाती है, तो A वह काम कितने दिनों में पूरा कर सकता है?

Options :

1. ✔ 20.57
2. ✘ 21
3. ✘ 21.14
4. ✘ 20.14

Question Number : 57 Question Id : 9662319909 Question Type : MCQ Option Shuffling : Yes Display Question Number : Yes  
Single Line Question Option : No Option Orientation : Vertical

Correct Marks : 1 Wrong Marks : 0.25

An error of 4% in excess is made while measuring each side of a square. What is the percentage of error in the calculated area of the square?

Options :

1. ✘ 4.04 percent
2. ✘ 6.09 percent

3. ✘ 7.135 percent

4. ✔ 8.16 percent

Question Number : 57 Question Id : 9662319909 Question Type : MCQ Option Shuffling : Yes Display Question Number : Yes  
Single Line Question Option : No Option Orientation : Vertical

Correct Marks : 1 Wrong Marks : 0.25

एक वर्ग की प्रत्येक भुजा को मापते समय 4% अधिक की त्रुटि होती है। वर्ग के क्षेत्रफल की गणना में हुई त्रुटि का प्रतिशत क्या है?

Options :

1. ✘ 4.04 प्रतिशत

2. ✘ 6.09 प्रतिशत

3. ✘ 7.135 प्रतिशत

4. ✔ 8.16 प्रतिशत

Question Number : 58 Question Id : 9662319910 Question Type : MCQ Option Shuffling : Yes Display Question Number : Yes  
Single Line Question Option : No Option Orientation : Vertical

Correct Marks : 1 Wrong Marks : 0.25

The slant height of a right circular cone is 25 cm and the height is 20 cm. What is the total surface area of the cone? (in  $\text{cm}^2$  taking  $\pi=3.14$  cm)

Options :

1. ✘  $1777 \text{ cm}^2$

2. ✘  $1784 \text{ cm}^2$

3. ✔  $1884 \text{ cm}^2$

4. ✘  $1888 \text{ cm}^2$

Question Number : 58 Question Id : 9662319910 Question Type : MCQ Option Shuffling : Yes Display Question Number : Yes  
Single Line Question Option : No Option Orientation : Vertical

Correct Marks : 1 Wrong Marks : 0.25

एक समकोण वृत्ताकार शंकु की तिरछी ऊँचाई 25 cm और ऊँचाई 20 cm है। उस शंकु के कुल सतह का क्षेत्रफल क्या है? ( $\text{cm}^2$  में,  $\pi = 3.14$  cm लेना)

Options :

1. ✘  $1777 \text{ cm}^2$

2. ✘  $1784 \text{ cm}^2$

3. ✔  $1884 \text{ cm}^2$

4. ✘  $1888 \text{ cm}^2$

Question Number : 59 Question Id : 9662319911 Question Type : MCQ Option Shuffling : Yes Display Question Number : Yes  
Single Line Question Option : No Option Orientation : Vertical

Correct Marks : 1 Wrong Marks : 0.25

The following table shows the revenue generated by different projects (in 000s) over different years. What is the average revenue earned (in 000s) from the Project C and D?

Years	A	B	C	D
2014-15	120	150	180	130
2015-16	150	200	160	120
2016-17	180	210	190	160
2017-18	200	250	125	180
2018-19	175	225	200	150



Options :

- ✘ Rs. 151 and Rs. 128
- ✘ Rs. 150 and Rs. 130
- ✔ Rs. 171 and Rs. 148
- ✘ Rs. 120 and Rs. 180

Question Number : 59 Question Id : 9662319911 Question Type : MCQ Option Shuffling : Yes Display Question Number : Yes Single Line Question Option : No Option Orientation : Vertical

Correct Marks : 1 Wrong Marks : 0.25

निम्न तालिका विभिन्न वर्षों में विभिन्न परियोजनाओं (000s में) से उत्पन्न राजस्व को दर्शाता है। परियोजना C और D से अर्जित औसत राजस्व (000s में) क्या है?

वर्ष	A	B	C	D
2014-15	120	150	180	130
2015-16	150	200	160	120
2016-17	180	210	190	160
2017-18	200	250	125	180
2018-19	175	225	200	150

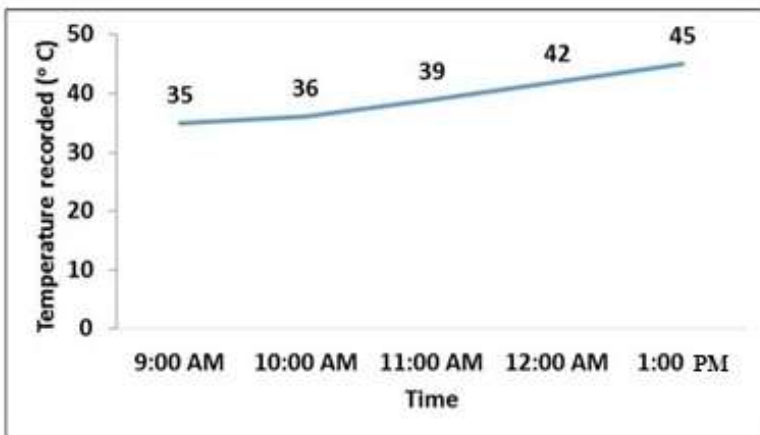
Options :

- ✘ 151 रुपये और 128 रुपये
- ✘ 150 रुपये और 130 रुपये
- ✔ 171 रुपये और 148 रुपये
- ✘ 120 रुपये और 180 रुपये

Question Number : 60 Question Id : 9662319912 Question Type : MCQ Option Shuffling : Yes Display Question Number : Yes Single Line Question Option : No Option Orientation : Vertical

Correct Marks : 1 Wrong Marks : 0.25

The following line graph shows the temperature recorded at different time intervals in a day. What is the highest percentage increase recorded?



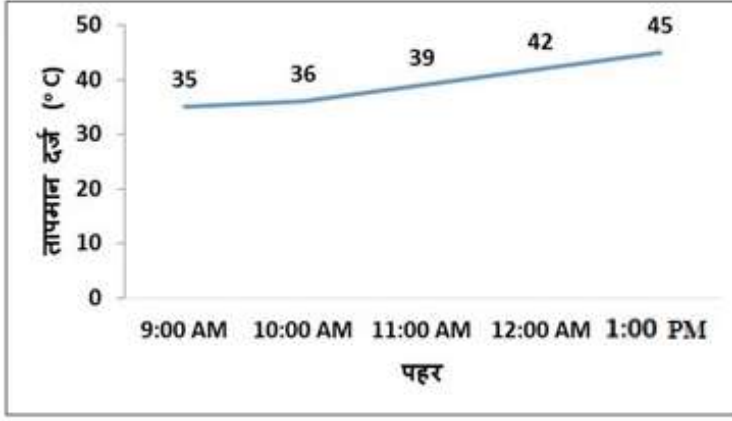
Options :

- ✔ 8.33 percent
- ✘ 9.67 percent
- ✘ 5.62 percent
- ✘ 10.5 percent

Question Number : 60 Question Id : 9662319912 Question Type : MCQ Option Shuffling : Yes Display Question Number : Yes Single Line Question Option : No Option Orientation : Vertical

Correct Marks : 1 Wrong Marks : 0.25

निम्न रेखा आरेख एक दिन में विभिन्न समय अंतराल पर दर्ज किए गए तापमान को दर्शाता है। दर्ज की गई सबसे अधिक प्रतिशत वृद्धि क्या है?



Options :

- ✓ 8.33 प्रतिशत
- ✗ 9.67 प्रतिशत
- ✗ 5.62 प्रतिशत
- ✗ 10.5 प्रतिशत

#### General English

Group Number :	4
Group Id :	966231287
Group Maximum Duration :	0
Group Minimum Duration :	0
Revisit allowed for view? :	No
Revisit allowed for edit? :	No
Break time:	0
Group Marks:	20
Revisit allowed for group Instructions? :	Yes
Maximum Instruction Time:	0
Minimum Instruction Time:	0

#### General English

Section Id :	966231402
Section Number :	1
Section type :	Online
Mandatory or Optional:	Mandatory
Number of Questions:	16
Number of Questions to be attempted:	16
Section Marks:	20
Display Number Panel:	Yes
Group All Questions:	No

Sub-Section Number:	1
Sub-Section Id:	966231454
Question Shuffling Allowed :	Yes

Question Number : 61 Question Id : 9662319913 Question Type : MCQ Option Shuffling : Yes Display Question Number : Yes  
Single Line Question Option : No Option Orientation : Vertical

Correct Marks : 1 Wrong Marks : 0.25

In the following statement, one part of the sentence may have an error. Find out which part of the sentence has an error and click the button corresponding to it. If the sentence is free from error, select the "No error" option.

(A) The thirteenth century, / (B) in China as in Europe, / (C) was a period of awakening. / (D) No error

Options :

1. ✘ A
2. ✘ B
3. ✘ C
4. ✔ D

Question Number : 61 Question Id : 9662319913 Question Type : MCQ Option Shuffling : Yes Display Question Number : Yes  
Single Line Question Option : No Option Orientation : Vertical

Correct Marks : 1 Wrong Marks : 0.25

In the following statement, one part of the sentence may have an error. Find out which part of the sentence has an error and click the button corresponding to it. If the sentence is free from error, select the "No error" option.

(A) The thirteenth century, / (B) in China as in Europe, / (C) was a period of awakening. / (D) No error

Options :

1. ✘ A
2. ✘ B
3. ✘ C
4. ✔ D

Question Number : 62 Question Id : 9662319914 Question Type : MCQ Option Shuffling : Yes Display Question Number : Yes  
Single Line Question Option : No Option Orientation : Vertical

Correct Marks : 1 Wrong Marks : 0.25

In the following statement, one part of the sentence may have an error. Find out which part of the sentence has an error and click the button corresponding to it. If the sentence is free from error, select the "No error" option.

(A) A person I met / (B) in the streets yesterday / (C) was Yashi's friend. / (D) No error

Options :

1. ✔ A
2. ✘ B
3. ✘ C
4. ✘ D

Question Number : 62 Question Id : 9662319914 Question Type : MCQ Option Shuffling : Yes Display Question Number : Yes  
Single Line Question Option : No Option Orientation : Vertical

Correct Marks : 1 Wrong Marks : 0.25

In the following statement, one part of the sentence may have an error. Find out which part of the sentence has an error and click the button corresponding to it. If the sentence is free from error, select the "No error" option.

(A) A person I met / (B) in the streets yesterday / (C) was Yashi's friend. / (D) No error

Options :

1. ✔ A

2. ✘ B
3. ✘ C
4. ✘ D

Question Number : 63 Question Id : 9662319915 Question Type : MCQ Option Shuffling : Yes Display Question Number : Yes  
Single Line Question Option : No Option Orientation : Vertical

Correct Marks : 1 Wrong Marks : 0.25

Replace the words in the bracket from the set of options given.

Jasmine lived in the town (since) 1997 to 2016.

Options :

1. ✔ from
2. ✘ in
3. ✘ within
4. ✘ with

Question Number : 63 Question Id : 9662319915 Question Type : MCQ Option Shuffling : Yes Display Question Number : Yes  
Single Line Question Option : No Option Orientation : Vertical

Correct Marks : 1 Wrong Marks : 0.25

Replace the words in the bracket from the set of options given.

Jasmine lived in the town (since) 1997 to 2016.

Options :

1. ✔ from
2. ✘ in
3. ✘ within
4. ✘ with

Question Number : 64 Question Id : 9662319916 Question Type : MCQ Option Shuffling : Yes Display Question Number : Yes  
Single Line Question Option : No Option Orientation : Vertical

Correct Marks : 1 Wrong Marks : 0.25

Replace the words in the bracket from the set of options given.

Lalita spent an hour discussing (on Hamlet's character).

Options :

1. ✔ about Hamlet's character.
2. ✘ of Hamlet's character.
3. ✘ in the character of Hamlet.
4. ✘ of the character of Hamlet.

Question Number : 64 Question Id : 9662319916 Question Type : MCQ Option Shuffling : Yes Display Question Number : Yes  
Single Line Question Option : No Option Orientation : Vertical

Correct Marks : 1 Wrong Marks : 0.25

Replace the words in the bracket from the set of options given.

Lalita spent an hour discussing (on Hamlet's character).

Options :

1. ✔ about Hamlet's character.
2. ✘ of Hamlet's character.
3. ✘ in the character of Hamlet.

4. ✘ of the character of Hamlet.

Question Number : 65 Question Id : 9662319917 Question Type : MCQ Option Shuffling : Yes Display Question Number : Yes  
Single Line Question Option : No Option Orientation : Vertical

Correct Marks : 1 Wrong Marks : 0.25

Fill in the blanks with the appropriate word.

My friends were busy, so I \_\_\_\_\_ to the college alone.

Options :

1. ✘ go
2. ✔ went
3. ✘ gone
4. ✘ going

Question Number : 65 Question Id : 9662319917 Question Type : MCQ Option Shuffling : Yes Display Question Number : Yes  
Single Line Question Option : No Option Orientation : Vertical

Correct Marks : 1 Wrong Marks : 0.25

Fill in the blanks with the appropriate word.

My friends were busy, so I \_\_\_\_\_ to the college alone.

Options :

1. ✘ go
2. ✔ went
3. ✘ gone
4. ✘ going

Question Number : 66 Question Id : 9662319918 Question Type : MCQ Option Shuffling : Yes Display Question Number : Yes  
Single Line Question Option : No Option Orientation : Vertical

Correct Marks : 1 Wrong Marks : 0.25

The questions below consist of a set of labelled parts of a sentence. Out of four options given, select the most logical order of the parts which form a coherent sentence.

Plastic bags those

P : polluting them and

Q : reach the soil and water bodies,

R : are not disposed properly,

S : damaging dependent lives

Options :

1. ✘ RQSP
2. ✘ QRSP
3. ✘ QRPS
4. ✔ RQPS

Question Number : 66 Question Id : 9662319918 Question Type : MCQ Option Shuffling : Yes Display Question Number : Yes  
Single Line Question Option : No Option Orientation : Vertical

Correct Marks : 1 Wrong Marks : 0.25

The questions below consist of a set of labelled parts of a sentence. Out of four options given, select the most logical order of the parts which form a coherent sentence.

Plastic bags those

P : polluting them and

Q : reach the soil and water bodies,

R : are not disposed properly,

S : damaging dependent lives

Options :

1. ✘ RQSP
2. ✘ QRSP
3. ✘ QRPS
4. ✔ RQPS

Question Number : 67 Question Id : 9662319919 Question Type : MCQ Option Shuffling : Yes Display Question Number : Yes  
Single Line Question Option : No Option Orientation : Vertical

Correct Marks : 1 Wrong Marks : 0.25

Out of the four alternatives, choose the word which best expresses the meaning of the given word.

Boisterous

Options :

1. ✘ Sharp
2. ✔ Rowdy
3. ✘ Calm
4. ✘ Idle

Question Number : 67 Question Id : 9662319919 Question Type : MCQ Option Shuffling : Yes Display Question Number : Yes  
Single Line Question Option : No Option Orientation : Vertical

Correct Marks : 1 Wrong Marks : 0.25

Out of the four alternatives, choose the word which best expresses the meaning of the given word.

Boisterous

Options :

1. ✘ Sharp
2. ✔ Rowdy
3. ✘ Calm
4. ✘ Idle

Question Number : 68 Question Id : 9662319920 Question Type : MCQ Option Shuffling : Yes Display Question Number : Yes  
Single Line Question Option : No Option Orientation : Vertical

Correct Marks : 1 Wrong Marks : 0.25

Out of the four alternatives, choose the word which is OPPOSITE in meaning to the given word.

Dormant

Options :

1. ✘ Passive
2. ✔ Active
3. ✘ Dead
4. ✘ Asleep

Question Number : 68 Question Id : 9662319920 Question Type : MCQ Option Shuffling : Yes Display Question Number : Yes  
Single Line Question Option : No Option Orientation : Vertical

Correct Marks : 1 Wrong Marks : 0.25

Out of the four alternatives, choose the word which is OPPOSITE in meaning to the given word.

Dormant

Options :

1. ✘ Passive
2. ✔ Active
3. ✘ Dead
4. ✘ Asleep

Question Number : 69 Question Id : 9662319921 Question Type : MCQ Option Shuffling : Yes Display Question Number : Yes  
Single Line Question Option : No Option Orientation : Vertical

Correct Marks : 1 Wrong Marks : 0.25

Four words are given, out of which only one word is spelt correctly. Choose the correctly spelt word.

Note: For this question, discrepancy is found in question/answer. So, this question is ignored for all candidates.

Options :

1. Indite
2. Indict
3. Indicte
4. Indit

Question Number : 69 Question Id : 9662319921 Question Type : MCQ Option Shuffling : Yes Display Question Number : Yes  
Single Line Question Option : No Option Orientation : Vertical

Correct Marks : 1 Wrong Marks : 0.25

Four words are given, out of which only one word is spelt correctly. Choose the correctly spelt word.

Note: For this question, discrepancy is found in question/answer. So, this question is ignored for all candidates.

Options :

1. Indite
2. Indict
3. Indicte
4. Indit

Question Number : 70 Question Id : 9662319922 Question Type : MCQ Option Shuffling : Yes Display Question Number : Yes  
Single Line Question Option : No Option Orientation : Vertical

Correct Marks : 1 Wrong Marks : 0.25

Select the word that is spelt correctly.

Options :

1. ✔ calendar
2. ✘ calander
3. ✘ calendear
4. ✘ callender

Question Number : 70 Question Id : 9662319922 Question Type : MCQ Option Shuffling : Yes Display Question Number : Yes  
Single Line Question Option : No Option Orientation : Vertical

Correct Marks : 1 Wrong Marks : 0.25

Select the word that is spelt correctly.

Options :

1. ✓ calendar
2. ✗ calander
3. ✗ calendear
4. ✗ callender

Question Number : 71 Question Id : 9662319923 Question Type : MCQ Option Shuffling : Yes Display Question Number : Yes  
Single Line Question Option : No Option Orientation : Vertical

Correct Marks : 1 Wrong Marks : 0.25

Four words are given, out of which only one word is spelt correctly. Choose the correctly spelt word.

Options :

1. ✓ Pernicious
2. ✗ Perncious
3. ✗ Perncois
4. ✗ Perncios

Question Number : 71 Question Id : 9662319923 Question Type : MCQ Option Shuffling : Yes Display Question Number : Yes  
Single Line Question Option : No Option Orientation : Vertical

Correct Marks : 1 Wrong Marks : 0.25

Four words are given, out of which only one word is spelt correctly. Choose the correctly spelt word.

Options :

1. ✓ Pernicious
2. ✗ Perncious
3. ✗ Perncois
4. ✗ Perncios

Question Number : 72 Question Id : 9662319924 Question Type : MCQ Option Shuffling : Yes Display Question Number : Yes  
Single Line Question Option : No Option Orientation : Vertical

Correct Marks : 1 Wrong Marks : 0.25

What does the following idiom mean?

Pull yourself together

Options :

1. ✗ To run out of patience
2. ✗ To get angry
3. ✓ To calm down
4. ✗ To go to sleep

Question Number : 72 Question Id : 9662319924 Question Type : MCQ Option Shuffling : Yes Display Question Number : Yes  
Single Line Question Option : No Option Orientation : Vertical

Correct Marks : 1 Wrong Marks : 0.25

What does the following idiom mean?

Pull yourself together

Options :

1. ✗ To run out of patience
2. ✗ To get angry
3. ✓ To calm down
4. ✗ To go to sleep



Question Number : 73 Question Id : 9662319925 Question Type : MCQ Option Shuffling : Yes Display Question Number : Yes  
Single Line Question Option : No Option Orientation : Vertical

Correct Marks : 1 Wrong Marks : 0.25

Select the option that best expresses the meaning of the idiom or phrase given below.

To cross a bridge before one comes to it.

Options :

- ✘ To enter a potentially dangerous place or zone
- ✘ To meet and spend time people who are powerful or famous
- ✘ To fight a sworn enemy
- ✔ To worry about the future in advance

Question Number : 73 Question Id : 9662319925 Question Type : MCQ Option Shuffling : Yes Display Question Number : Yes  
Single Line Question Option : No Option Orientation : Vertical

Correct Marks : 1 Wrong Marks : 0.25

Select the option that best expresses the meaning of the idiom or phrase given below.

To cross a bridge before one comes to it.

Options :

- ✘ To enter a potentially dangerous place or zone
- ✘ To meet and spend time people who are powerful or famous
- ✘ To fight a sworn enemy
- ✔ To worry about the future in advance

Question Number : 74 Question Id : 9662319926 Question Type : MCQ Option Shuffling : Yes Display Question Number : Yes  
Single Line Question Option : No Option Orientation : Vertical

Correct Marks : 1 Wrong Marks : 0.25

In the following question, out of four alternatives, select the alternative which is the best substitute of the words / sentences.

One who walks on a tightrope.

Options :

- ✔ Funambulist
- ✘ Agnostic
- ✘ Calligrapher
- ✘ Apostate

Question Number : 74 Question Id : 9662319926 Question Type : MCQ Option Shuffling : Yes Display Question Number : Yes  
Single Line Question Option : No Option Orientation : Vertical

Correct Marks : 1 Wrong Marks : 0.25

In the following question, out of four alternatives, select the alternative which is the best substitute of the words / sentences.

One who walks on a tightrope.

Options :

- ✔ Funambulist
- ✘ Agnostic
- ✘ Calligrapher
- ✘ Apostate

Question Number : 75 Question Id : 9662319927 Question Type : MCQ Option Shuffling : Yes Display Question Number : Yes  
Single Line Question Option : No Option Orientation : Vertical

Correct Marks : 1 Wrong Marks : 0.25

Select the most appropriate 'one word' for the expressions given below.

A person who loves mankind.

Options :

1. ✘ Anthropologist
2. ✘ Philosphist
3. ✔ Philanthropist
4. ✘ Philologist

Question Number : 75 Question Id : 9662319927 Question Type : MCQ Option Shuffling : Yes Display Question Number : Yes  
Single Line Question Option : No Option Orientation : Vertical

Correct Marks : 1 Wrong Marks : 0.25

Select the most appropriate 'one word' for the expressions given below.

A person who loves mankind.

Options :

1. ✘ Anthropologist
2. ✘ Philosphist
3. ✔ Philanthropist
4. ✘ Philologist

Sub-Section Number:	2
Sub-Section Id:	966231455
Question Shuffling Allowed :	Yes

Question Id : 9662319928 Question Type : COMPREHENSION Sub Question Shuffling Allowed : Yes Group Comprehension  
Questions : No

Question Numbers : (76 to 80)

Question Label : Comprehension

Read the passage carefully and answer the given question:

The Great Depression (also known in the U.K. as the Great Slump) was a dramatic, worldwide economic downturn beginning in some countries as early as 1928. The beginning of the Great Depression in the United States is associated with the stock market crash on October 29, 1929, known as Black Tuesday. The depression had devastating effects in both the industrialized countries and those which exported raw materials. International trade declined sharply, as did personal incomes, tax revenues, prices and profits. Cities all around the world were hit hard, especially those dependent on heavy industry. Construction was virtually halted in many countries. Farming and rural areas suffered as crop prices fell by 40 to 60 percent. Facing plummeting demand with few alternate sources of jobs, areas dependent on primary sector industries such as farming, mining and logging suffered the most. At the time, Herbert Hoover was the President of United States.

Sub questions

Question Number : 76 Question Id : 9662319929 Question Type : MCQ Option Shuffling : Yes Display Question Number : Yes  
Single Line Question Option : No Option Orientation : Vertical

Correct Marks : 1 Wrong Marks : 0.25

When did the Black Tuesday happen?

Options :

1. ✘ 28th October, 1929
2. ✔ 29th October, 1929

3. ✘ 28th October, 1927
4. ✘ 29th October, 1930

Question Number : 77 Question Id : 9662319930 Question Type : MCQ Option Shuffling : Yes Display Question Number : Yes  
Single Line Question Option : No Option Orientation : Vertical

Correct Marks : 1 Wrong Marks : 0.25

Which incident is associated with Black Tuesday?

Options :

1. ✘ Terrorist attack
2. ✘ Increase in primary industries
3. ✘ Growth of heavy industries
4. ✔ Stock market crash

Question Number : 78 Question Id : 9662319931 Question Type : MCQ Option Shuffling : Yes Display Question Number : Yes  
Single Line Question Option : No Option Orientation : Vertical

Correct Marks : 1 Wrong Marks : 0.25

By how much did the crop prices fall in rural areas during the Great Depression?

Options :

1. ✔ 40 to 60 percent
2. ✘ 30 to 40 percent
3. ✘ 20 to 30 percent
4. ✘ 60 to 80 percent

Question Number : 79 Question Id : 9662319932 Question Type : MCQ Option Shuffling : Yes Display Question Number : Yes  
Single Line Question Option : No Option Orientation : Vertical

Correct Marks : 1 Wrong Marks : 0.25

Which of the following is not an example of primary sector industry?

Options :

1. ✘ Farming
2. ✘ Mining
3. ✘ Logging
4. ✔ Light manufacturing

Question Number : 80 Question Id : 9662319933 Question Type : MCQ Option Shuffling : Yes Display Question Number : Yes  
Single Line Question Option : No Option Orientation : Vertical

Correct Marks : 1 Wrong Marks : 0.25

Who was the President of the United States at the time of Great Depression?

Options :

1. ✘ Bill Clinton
2. ✘ George H.W. Bush
3. ✔ Herbert Hoover
4. ✘ George Washington

Question Id : 9662319928 Question Type : COMPREHENSION Sub Question Shuffling Allowed : Yes Group Comprehension  
Questions : No

Question Numbers : (76 to 80)

Question Label : Comprehension

Read the passage carefully and answer the given question:

The Great Depression (also known in the U.K. as the Great Slump) was a dramatic, worldwide economic downturn beginning in some countries as early as 1928. The beginning of the Great Depression in the United States is associated with the stock market crash on October 29, 1929, known as Black Tuesday. The depression had devastating effects in both the industrialized countries and those which exported raw materials. International trade declined sharply, as did personal incomes, tax revenues, prices and profits. Cities all around the world were hit hard, especially those dependent on heavy industry. Construction was virtually halted in many countries. Farming and rural areas suffered as crop prices fell by 40 to 60 percent. Facing plummeting demand with few alternate sources of jobs, areas dependent on primary sector industries such as farming, mining and logging suffered the most. At the time, Herbert Hoover was the President of United States.

**Sub questions**

**Question Number : 76 Question Id : 9662319929 Question Type : MCQ Option Shuffling : Yes Display Question Number : Yes Single Line Question Option : No Option Orientation : Vertical**

**Correct Marks : 1 Wrong Marks : 0.25**

When did the Black Tuesday happen?

**Options :**

1. ✘ 28th October, 1929
2. ✔ 29th October, 1929
3. ✘ 28th October, 1927
4. ✘ 29th October, 1930

**Question Number : 77 Question Id : 9662319930 Question Type : MCQ Option Shuffling : Yes Display Question Number : Yes Single Line Question Option : No Option Orientation : Vertical**

**Correct Marks : 1 Wrong Marks : 0.25**

Which incident is associated with Black Tuesday?

**Options :**

1. ✘ Terrorist attack
2. ✘ Increase in primary industries
3. ✘ Growth of heavy industries
4. ✔ Stock market crash

**Question Number : 78 Question Id : 9662319931 Question Type : MCQ Option Shuffling : Yes Display Question Number : Yes Single Line Question Option : No Option Orientation : Vertical**

**Correct Marks : 1 Wrong Marks : 0.25**

By how much did the crop prices fall in rural areas during the Great Depression?

**Options :**

1. ✔ 40 to 60 percent
2. ✘ 30 to 40 percent
3. ✘ 20 to 30 percent
4. ✘ 60 to 80 percent

**Question Number : 79 Question Id : 9662319932 Question Type : MCQ Option Shuffling : Yes Display Question Number : Yes Single Line Question Option : No Option Orientation : Vertical**

**Correct Marks : 1 Wrong Marks : 0.25**

Which of the following is not an example of primary sector industry?

**Options :**

1. ✘ Farming
2. ✘ Mining
3. ✘ Logging

4. ✓ Light manufacturing

Question Number : 80 Question Id : 9662319933 Question Type : MCQ Option Shuffling : Yes Display Question Number : Yes  
Single Line Question Option : No Option Orientation : Vertical

Correct Marks : 1 Wrong Marks : 0.25

Who was the President of the United States at the time of Great Depression?

Options :

1. ✗ Bill Clinton
2. ✗ George H.W. Bush
3. ✓ Herbert Hoover
4. ✗ George Washington

General Hindi

Group Number :	5
Group Id :	966231288
Group Maximum Duration :	0
Group Minimum Duration :	0
Revisit allowed for view? :	No
Revisit allowed for edit? :	No
Break time:	0
Group Marks:	20
Revisit allowed for group Instructions? :	Yes
Maximum Instruction Time:	0
Minimum Instruction Time:	0

General Hindi

Section Id :	966231403
Section Number :	1
Section type :	Online
Mandatory or Optional:	Mandatory
Number of Questions:	16
Number of Questions to be attempted:	16
Section Marks:	20
Display Number Panel:	Yes
Group All Questions:	No

Sub-Section Number:	1
Sub-Section Id:	966231456
Question Shuffling Allowed :	Yes

Question Number : 81 Question Id : 9662319934 Question Type : MCQ Option Shuffling : Yes Display Question Number : Yes  
Single Line Question Option : No Option Orientation : Vertical

Correct Marks : 1 Wrong Marks : 0.25

निम्नलिखित प्रश्न में, चार विकल्पों में से, उस विकल्प का चयन करें जो उपसर्ग से बना है।

Note: For this question, discrepancy is found in question/answer. So, this question is ignored for all candidates.

Options :

1. प्रपात
2. कुरूपता
3. गोलाई
4. सिलाई

Question Number : 81 Question Id : 9662319934 Question Type : MCQ Option Shuffling : Yes Display Question Number : Yes  
Single Line Question Option : No Option Orientation : Vertical

Correct Marks : 1 Wrong Marks : 0.25

निम्नलिखित प्रश्न में, चार विकल्पों में से, उस विकल्प का चयन करें जो उपसर्ग से बना है।

Note: For this question, discrepancy is found in question/answer. So, this question is ignored for all candidates.

Options :

1. प्रपात
2. कुरूपता
3. गोलाई
4. सिलाई

Question Number : 82 Question Id : 9662319935 Question Type : MCQ Option Shuffling : Yes Display Question Number : Yes  
Single Line Question Option : No Option Orientation : Vertical

Correct Marks : 1 Wrong Marks : 0.25

निम्नलिखित प्रश्न में, चार विकल्पों में से, उस सही विकल्प का चयन करें जो प्रत्यय से बना शब्द है।

Options :

1. ✘ आहार
2. ✘ विश्राम
3. ✘ सम्मान
4. ✔ नगरीय

Question Number : 82 Question Id : 9662319935 Question Type : MCQ Option Shuffling : Yes Display Question Number : Yes  
Single Line Question Option : No Option Orientation : Vertical

Correct Marks : 1 Wrong Marks : 0.25

निम्नलिखित प्रश्न में, चार विकल्पों में से, उस सही विकल्प का चयन करें जो प्रत्यय से बना शब्द है।

Options :

1. ✘ आहार
2. ✘ विश्राम
3. ✘ सम्मान
4. ✔ नगरीय

Question Number : 83 Question Id : 9662319936 Question Type : MCQ Option Shuffling : Yes Display Question Number : Yes  
Single Line Question Option : No Option Orientation : Vertical

Correct Marks : 1 Wrong Marks : 0.25

दिए गए वाक्य में रिक्त स्थान की पूर्ति कीजिए।

समय रहते संभल जाओ \_\_\_\_\_ पछताओगो (समानाधिकरण समुच्चयबोधक)

Options :

1. ✘ क्योंकि
2. ✘ एवं
3. ✘ अथवा
4. ✔ अन्यथा

Question Number : 83 Question Id : 9662319936 Question Type : MCQ Option Shuffling : Yes Display Question Number : Yes  
Single Line Question Option : No Option Orientation : Vertical

Correct Marks : 1 Wrong Marks : 0.25

दिए गए वाक्य में रिक्त स्थान की पूर्ति कीजिए।

समय रहते संभल जाओ \_\_\_\_\_ पछताओगो (समानाधिकरण समुच्चयबोधक)

Options :

1. ✘ क्योंकि
2. ✘ एवं
3. ✘ अथवा
4. ✔ अन्यथा

Question Number : 84 Question Id : 9662319937 Question Type : MCQ Option Shuffling : Yes Display Question Number : Yes  
Single Line Question Option : No Option Orientation : Vertical

Correct Marks : 1 Wrong Marks : 0.25

निम्नलिखित प्रश्न में, चार विकल्पों में से, उस विकल्प का चयन करें जो क्रिया के भेद वाला सही विकल्प हो।

मैंने अपनी दादी को गाँव से बुलवाया।

Options :

1. ✘ पूर्वकालिक क्रिया
2. ✘ नामधातु
3. ✔ प्रेरणार्थक क्रिया
4. ✘ तात्कालिक क्रिया

Question Number : 84 Question Id : 9662319937 Question Type : MCQ Option Shuffling : Yes Display Question Number : Yes  
Single Line Question Option : No Option Orientation : Vertical

Correct Marks : 1 Wrong Marks : 0.25

निम्नलिखित प्रश्न में, चार विकल्पों में से, उस विकल्प का चयन करें जो क्रिया के भेद वाला सही विकल्प हो।

मैंने अपनी दादी को गाँव से बुलवाया।

Options :

1. ✘ पूर्वकालिक क्रिया
2. ✘ नामधातु
3. ✔ प्रेरणार्थक क्रिया
4. ✘ तात्कालिक क्रिया

Question Number : 85 Question Id : 9662319938 Question Type : MCQ Option Shuffling : Yes Display Question Number : Yes  
Single Line Question Option : No Option Orientation : Vertical

Correct Marks : 1 Wrong Marks : 0.25

निम्नलिखित प्रश्न में, चार विकल्पों में से, उस विकल्प का चयन करें जो समानार्थी शब्द का सही विकल्प नहीं है।

घर

Options :

1. ✘ गेह
2. ✘ डेरा
3. ✔ कंज
4. ✘ निकेत

Question Number : 85 Question Id : 9662319938 Question Type : MCQ Option Shuffling : Yes Display Question Number : Yes  
Single Line Question Option : No Option Orientation : Vertical

Correct Marks : 1 Wrong Marks : 0.25

निम्नलिखित प्रश्न में, चार विकल्पों में से, उस विकल्प का चयन करें जो समानार्थी शब्द का सही विकल्प नहीं है।

घर

Options :

1. ✘ गेह
2. ✘ डेरा
3. ✔ कंज
4. ✘ निकेत

Question Number : 86 Question Id : 9662319939 Question Type : MCQ Option Shuffling : Yes Display Question Number : Yes  
Single Line Question Option : No Option Orientation : Vertical

Correct Marks : 1 Wrong Marks : 0.25

निम्नलिखित प्रश्न में, चार विकल्पों में से, उस विकल्प का चयन करें जो विलोम शब्द का सबसे अच्छा विकल्प है।

पाश्चात्य

Options :

1. ✘ प्राचीन
2. ✘ पिछला
3. ✘ दिशा
4. ✔ पौर्वात्य

Question Number : 86 Question Id : 9662319939 Question Type : MCQ Option Shuffling : Yes Display Question Number : Yes  
Single Line Question Option : No Option Orientation : Vertical

Correct Marks : 1 Wrong Marks : 0.25

निम्नलिखित प्रश्न में, चार विकल्पों में से, उस विकल्प का चयन करें जो विलोम शब्द का सबसे अच्छा विकल्प है।

पाश्चात्य

Options :

1. ✘ प्राचीन
2. ✘ पिछला
3. ✘ दिशा
4. ✔ पौर्वात्य

Question Number : 87 Question Id : 9662319940 Question Type : MCQ Option Shuffling : Yes Display Question Number : Yes  
Single Line Question Option : No Option Orientation : Vertical

Correct Marks : 1 Wrong Marks : 0.25

दिए गए वाक्य में रिक्त स्थान की पूर्ति कीजिए।

बच्चे की मासूम हँसी देखकर \_\_\_\_\_ मुस्कराना ही पड़ा।

Options :

1. ✘ वे
2. ✔ उन्हें
3. ✘ वह
4. ✘ तुम्हारा

Question Number : 87 Question Id : 9662319940 Question Type : MCQ Option Shuffling : Yes Display Question Number : Yes  
Single Line Question Option : No Option Orientation : Vertical

Correct Marks : 1 Wrong Marks : 0.25

दिए गए वाक्य में रिक्त स्थान की पूर्ति कीजिए।

बच्चे की मासूम हँसी देखकर \_\_\_\_\_ मुस्कराना ही पड़ा।



Options :

1. ✘ वे
2. ✔ उन्हें
3. ✘ वह
4. ✘ तुम्हारा

Question Number : 88 Question Id : 9662319941 Question Type : MCQ Option Shuffling : Yes Display Question Number : Yes  
Single Line Question Option : No Option Orientation : Vertical

Correct Marks : 1 Wrong Marks : 0.25

निम्नलिखित प्रश्न में, चार विकल्पों में से, उस सही विकल्प का चयन करें जो वाक्यांशों के लिए एक शब्द का विकल्प हो।

आँखों के सामने न होनेवाला

Options :

1. ✘ प्रत्यक्ष
2. ✘ निराधार
3. ✔ परोक्ष
4. ✘ निराकार

Question Number : 88 Question Id : 9662319941 Question Type : MCQ Option Shuffling : Yes Display Question Number : Yes  
Single Line Question Option : No Option Orientation : Vertical

Correct Marks : 1 Wrong Marks : 0.25

निम्नलिखित प्रश्न में, चार विकल्पों में से, उस सही विकल्प का चयन करें जो वाक्यांशों के लिए एक शब्द का विकल्प हो।

आँखों के सामने न होनेवाला

Options :

1. ✘ प्रत्यक्ष
2. ✘ निराधार
3. ✔ परोक्ष
4. ✘ निराकार

Question Number : 89 Question Id : 9662319942 Question Type : MCQ Option Shuffling : Yes Display Question Number : Yes  
Single Line Question Option : No Option Orientation : Vertical

Correct Marks : 1 Wrong Marks : 0.25

दिए गए वाक्य में रिक्त स्थान की पूर्ति कीजिए।

दीपा से कहानी पढ़ी \_\_\_\_\_ । (भाववाच्य)

Options :

1. ✔ नहीं जाती
2. ✘ जाएगी
3. ✘ है
4. ✘ जाती

Question Number : 89 Question Id : 9662319942 Question Type : MCQ Option Shuffling : Yes Display Question Number : Yes  
Single Line Question Option : No Option Orientation : Vertical

Correct Marks : 1 Wrong Marks : 0.25

दिए गए वाक्य में रिक्त स्थान की पूर्ति कीजिए।

दीपा से कहानी पढ़ी \_\_\_\_\_ । (भाववाच्य)

Options :

1. ✔ नहीं जाती

2. ✘ जाएगी
3. ✘ है
4. ✘ जाती

Question Number : 90 Question Id : 9662319943 Question Type : MCQ Option Shuffling : Yes Display Question Number : Yes  
Single Line Question Option : No Option Orientation : Vertical

Correct Marks : 1 Wrong Marks : 0.25

निम्नलिखित प्रश्न में, चार विकल्पों में से, उस विकल्प का चयन करें जो दिए गए वाक्य के लिए वृत्ति के भेद का सबसे अच्छा विकल्प है।

अगर चीनी मिल जाती तो अच्छी चाय बना देती।

Options :

1. ✘ संभावनार्थ
2. ✘ संदेहार्थ
3. ✔ संकेतार्थ
4. ✘ विध्यर्थ

Question Number : 90 Question Id : 9662319943 Question Type : MCQ Option Shuffling : Yes Display Question Number : Yes  
Single Line Question Option : No Option Orientation : Vertical

Correct Marks : 1 Wrong Marks : 0.25

निम्नलिखित प्रश्न में, चार विकल्पों में से, उस विकल्प का चयन करें जो दिए गए वाक्य के लिए वृत्ति के भेद का सबसे अच्छा विकल्प है।

अगर चीनी मिल जाती तो अच्छी चाय बना देती।

Options :

1. ✘ संभावनार्थ
2. ✘ संदेहार्थ
3. ✔ संकेतार्थ
4. ✘ विध्यर्थ

Question Number : 91 Question Id : 9662319944 Question Type : MCQ Option Shuffling : Yes Display Question Number : Yes  
Single Line Question Option : No Option Orientation : Vertical

Correct Marks : 1 Wrong Marks : 0.25

निम्नलिखित प्रश्न में, चार विकल्पों में से, उस विकल्प का चयन करें जो दिए गए वाक्य के लिए वृत्ति के भेद का सबसे अच्छा विकल्प है।

संभव है आज मेरी तबीयत खराब हो।

Options :

1. ✘ संदेहार्थ
2. ✘ निश्चयार्थ
3. ✘ संकेतार्थ
4. ✔ संभावनार्थ

Question Number : 91 Question Id : 9662319944 Question Type : MCQ Option Shuffling : Yes Display Question Number : Yes  
Single Line Question Option : No Option Orientation : Vertical

Correct Marks : 1 Wrong Marks : 0.25

निम्नलिखित प्रश्न में, चार विकल्पों में से, उस विकल्प का चयन करें जो दिए गए वाक्य के लिए वृत्ति के भेद का सबसे अच्छा विकल्प है।

संभव है आज मेरी तबीयत खराब हो।

Options :

1. ✘ संदेहार्थ
2. ✘ निश्चयार्थ
3. ✘ संकेतार्थ

4. ✓ संभावनार्थ

Question Number : 92 Question Id : 9662319945 Question Type : MCQ Option Shuffling : Yes Display Question Number : Yes  
Single Line Question Option : No Option Orientation : Vertical

Correct Marks : 1 Wrong Marks : 0.25

निम्नलिखित प्रश्न में, चार विकल्पों में से, उस विकल्प का चयन करें जो दिए गए वाक्य के लिए वृत्ति के भेद का सबसे अच्छा विकल्प है।

रोहन विद्यालय से चल पड़ा होगा।

Options :

1. ✗ विध्यर्थ
2. ✗ संकेतार्थ
3. ✓ संदेहार्थ
4. ✗ निश्चयार्थ

Question Number : 92 Question Id : 9662319945 Question Type : MCQ Option Shuffling : Yes Display Question Number : Yes  
Single Line Question Option : No Option Orientation : Vertical

Correct Marks : 1 Wrong Marks : 0.25

निम्नलिखित प्रश्न में, चार विकल्पों में से, उस विकल्प का चयन करें जो दिए गए वाक्य के लिए वृत्ति के भेद का सबसे अच्छा विकल्प है।

रोहन विद्यालय से चल पड़ा होगा।

Options :

1. ✗ विध्यर्थ
2. ✗ संकेतार्थ
3. ✓ संदेहार्थ
4. ✗ निश्चयार्थ

Question Number : 93 Question Id : 9662319946 Question Type : MCQ Option Shuffling : Yes Display Question Number : Yes  
Single Line Question Option : No Option Orientation : Vertical

Correct Marks : 1 Wrong Marks : 0.25

निम्नलिखित प्रश्न में, चार विकल्पों में से, उस विकल्प का चयन करें जो दिए गए मुहावरे का सही अर्थ वाला विकल्प है।

गोटी हाथ से जाना।

Options :

1. ✗ काम न आना।
2. ✓ उपाय का बिगड़ जाना।
3. ✗ खेल हारना।
4. ✗ सामान ख़त्म हो जाना।

Question Number : 93 Question Id : 9662319946 Question Type : MCQ Option Shuffling : Yes Display Question Number : Yes  
Single Line Question Option : No Option Orientation : Vertical

Correct Marks : 1 Wrong Marks : 0.25

निम्नलिखित प्रश्न में, चार विकल्पों में से, उस विकल्प का चयन करें जो दिए गए मुहावरे का सही अर्थ वाला विकल्प है।

गोटी हाथ से जाना।

Options :

1. ✗ काम न आना।
2. ✓ उपाय का बिगड़ जाना।
3. ✗ खेल हारना।
4. ✗ सामान ख़त्म हो जाना।

Question Number : 94 Question Id : 9662319947 Question Type : MCQ Option Shuffling : Yes Display Question Number : Yes  
Single Line Question Option : No Option Orientation : Vertical

Correct Marks : 1 Wrong Marks : 0.25

निम्नलिखित प्रश्न में, चार विकल्पों में से, उस विकल्प का चयन करें जो दिए गए मुहावरे का सही अर्थ वाला विकल्प है।

आँखें बिलाना

Options :

1. ✓ प्रेम से स्वागत करना
2. ✗ इंतज़ार कराना
3. ✗ जागना
4. ✗ रास्ता देखना

Question Number : 94 Question Id : 9662319947 Question Type : MCQ Option Shuffling : Yes Display Question Number : Yes  
Single Line Question Option : No Option Orientation : Vertical

Correct Marks : 1 Wrong Marks : 0.25

निम्नलिखित प्रश्न में, चार विकल्पों में से, उस विकल्प का चयन करें जो दिए गए मुहावरे का सही अर्थ वाला विकल्प है।

आँखें बिलाना

Options :

1. ✓ प्रेम से स्वागत करना
2. ✗ इंतज़ार कराना
3. ✗ जागना
4. ✗ रास्ता देखना

Question Number : 95 Question Id : 9662319948 Question Type : MCQ Option Shuffling : Yes Display Question Number : Yes  
Single Line Question Option : No Option Orientation : Vertical

Correct Marks : 1 Wrong Marks : 0.25

निम्नलिखित प्रश्न में, चार विकल्पों में से, उस विकल्प का चयन करें जो विराम चिह्न युक्त वाक्य का सही विकल्प हो।

Options :

1. ✗ आगरा का ताजमहल, जो कि विश्व में प्रसिद्ध है, उत्तर भारत में है।
2. ✗ आगरा का ताजमहल, "जो कि विश्व में प्रसिद्ध है, उत्तर भारत में है।"
3. ✓ आगरा का ताजमहल, जो कि विश्व में प्रसिद्ध है, उत्तर भारत में है।
4. ✗ आगरा का ताजमहल जो कि विश्व में प्रसिद्ध है उत्तर भारत में है।

Question Number : 95 Question Id : 9662319948 Question Type : MCQ Option Shuffling : Yes Display Question Number : Yes  
Single Line Question Option : No Option Orientation : Vertical

Correct Marks : 1 Wrong Marks : 0.25

निम्नलिखित प्रश्न में, चार विकल्पों में से, उस विकल्प का चयन करें जो विराम चिह्न युक्त वाक्य का सही विकल्प हो।

Options :

1. ✗ आगरा का ताजमहल, जो कि विश्व में प्रसिद्ध है, उत्तर भारत में है।
2. ✗ आगरा का ताजमहल, "जो कि विश्व में प्रसिद्ध है, उत्तर भारत में है।"
3. ✓ आगरा का ताजमहल, जो कि विश्व में प्रसिद्ध है, उत्तर भारत में है।
4. ✗ आगरा का ताजमहल जो कि विश्व में प्रसिद्ध है उत्तर भारत में है।

Sub-Section Number: 2  
Sub-Section Id: 966231457  
Question Shuffling Allowed : Yes

Question Id : 9662319949 Question Type : COMPREHENSION Sub Question Shuffling Allowed : Yes Group Comprehension Questions : No

Question Numbers : (96 to 100)

Question Label : Comprehension

नीचे दिए गए इस गद्यांश को ध्यानपूर्वक पढ़ें और चार विकल्पों में से प्रत्येक प्रश्न का सर्वोत्तम उत्तर चुनें:

हिंदी समृद्ध विकासशील भाषा है। इसी कारण इसने अरबी, फारसी आदि की संपर्क में आकर उनके शब्द ग्रहण कर लिए। अब अंग्रेजी के शब्दों को भी ग्रहण कर रही है। इसे भाषा-दोष नहीं, गुण समझना चाहिए। अपनी इस ग्रहण शक्ति से हिंदी का विकास हो रहा है, हास नहीं। जैसे-जैसे इसका प्रचार बढ़ेगा, वैसे-वैसे इसमें नए शब्द आते जाएंगे। हमें तो केवल इस बात का ध्यान रखना चाहिए कि इस सम्मिश्रण के कारण हमारी भाषा अपने स्वरूप को तो नष्ट नहीं कर रही है। कहीं अन्य भाषाओं के बेमेल शब्दों के मिश्रण से इसका रूप तो नहीं बिगड़ रहा है।

Sub questions

Question Number : 96 Question Id : 9662319950 Question Type : MCQ Option Shuffling : Yes Display Question Number : Yes Single Line Question Option : No Option Orientation : Vertical

Correct Marks : 1 Wrong Marks : 0.25

अनुच्छेद के अनुसार हिंदी कैसी भाषा है?

Options :

1. ✘ स्पष्ट
2. ✔ समृद्ध विकासशील
3. ✘ विकसित
4. ✘ अविकसित

Question Number : 97 Question Id : 9662319951 Question Type : MCQ Option Shuffling : Yes Display Question Number : Yes Single Line Question Option : No Option Orientation : Vertical

Correct Marks : 1 Wrong Marks : 0.25

भाषा का गुण क्या होता है?

Options :

1. ✔ दूसरी भाषाओं के शब्दों को ले लेती है
2. ✘ दूसरी भाषा के शब्दों को नहीं लेती
3. ✘ सबकी बात सुनने का
4. ✘ गाँधी जी द्वारा बात स्वीकार करने का

Question Number : 98 Question Id : 9662319952 Question Type : MCQ Option Shuffling : Yes Display Question Number : Yes Single Line Question Option : No Option Orientation : Vertical

Correct Marks : 1 Wrong Marks : 0.25

भाषा में लगातार हो रहे बदलाव के समय हमें किस बात का ध्यान रखना चाहिए?

Options :

1. ✘ भाषा का स्वरूप बदल जाए
2. ✘ बदलाव न हो
3. ✔ भाषा का स्वरूप नष्ट न हो
4. ✘ ग्रहण शक्ति खत्म हो जाए

Question Number : 99 Question Id : 9662319953 Question Type : MCQ Option Shuffling : Yes Display Question Number : Yes Single Line Question Option : No Option Orientation : Vertical

Correct Marks : 1 Wrong Marks : 0.25

इनमें से कौन-सा स्वरूप का पर्यायवाची नहीं है?

Options :

1. ✘ आकार
2. ✘ हुलिया
3. ✘ आकृति

4. ✓ बदलाव

Question Number : 100 Question Id : 9662319954 Question Type : MCQ Option Shuffling : Yes Display Question Number : Yes  
Single Line Question Option : No Option Orientation : Vertical

Correct Marks : 1 Wrong Marks : 0.25

इस अनुच्छेद का कोई उपयुक्त शीर्षक:

Options :

1. ✗ ग्रहण शक्ति
2. ✗ बेमेल शब्द
3. ✗ अंग्रेजी शब्द
4. ✓ हिंदी भाषा

Question Id : 9662319949 Question Type : COMPREHENSION Sub Question Shuffling Allowed : Yes Group Comprehension  
Questions : No

Question Numbers : (96 to 100)

Question Label : Comprehension

नीचे दिए गए इस गद्यांश को ध्यानपूर्वक पढ़ें और चार विकल्पों में से प्रत्येक प्रश्न का सर्वोत्तम उत्तर चुनें:

हिंदी समृद्ध विकासशील भाषा है। इसी कारण इसने अरबी, फारसी आदि की संपर्क में आकर उनके शब्द ग्रहण कर लिए। अब अंग्रेजी के शब्दों को भी ग्रहण कर रही है। इसे भाषा-दोष नहीं, गुण समझना चाहिए। अपनी इस ग्रहण शक्ति से हिंदी का विकास हो रहा है, हास नहीं। जैसे-जैसे इसका प्रचार बढ़ेगा, वैसे-वैसे इसमें नए शब्द आते जाएंगे। हमें तो केवल इस बात का ध्यान रखना चाहिए कि इस सम्मिश्रण के कारण हमारी भाषा अपने स्वरूप को तो नष्ट नहीं कर रही है। कहीं अन्य भाषाओं के बेमेल शब्दों के मिश्रण से इसका रूप तो नहीं बिगड़ रहा है।

Sub questions

Question Number : 96 Question Id : 9662319950 Question Type : MCQ Option Shuffling : Yes Display Question Number : Yes  
Single Line Question Option : No Option Orientation : Vertical

Correct Marks : 1 Wrong Marks : 0.25

अनुच्छेद के अनुसार हिंदी कैसी भाषा है?

Options :

1. ✗ स्पष्ट
2. ✓ समृद्ध विकासशील
3. ✗ विकसित
4. ✗ अविकसित

Question Number : 97 Question Id : 9662319951 Question Type : MCQ Option Shuffling : Yes Display Question Number : Yes  
Single Line Question Option : No Option Orientation : Vertical

Correct Marks : 1 Wrong Marks : 0.25

भाषा का गुण क्या होता है?

Options :

1. ✓ दूसरी भाषाओं के शब्दों को ले लेती है
2. ✗ दूसरी भाषा के शब्दों को नहीं लेती
3. ✗ सबकी बात सुनने का
4. ✗ गाँधी जी द्वारा बात स्वीकार करने का

Question Number : 98 Question Id : 9662319952 Question Type : MCQ Option Shuffling : Yes Display Question Number : Yes  
Single Line Question Option : No Option Orientation : Vertical

Correct Marks : 1 Wrong Marks : 0.25

भाषा में लगातार हो रहे बदलाव के समय हमें किस बात का ध्यान रखना चाहिए?

Options :

1. ✗ भाषा का स्वरूप बदल जाए
2. ✗ बदलाव न हो

3. ✓ भाषा का स्वरूप नष्ट न हो

4. ✗ ग्रहण शक्ति खत्म हो जाए

Question Number : 99 Question Id : 9662319953 Question Type : MCQ Option Shuffling : Yes Display Question Number : Yes  
Single Line Question Option : No Option Orientation : Vertical

Correct Marks : 1 Wrong Marks : 0.25

इनमें से कौन-सा स्वरूप का पर्यायवाची नहीं है?

Options :

1. ✗ आकार

2. ✗ हुलिया

3. ✗ आकृति

4. ✓ बदलाव

Question Number : 100 Question Id : 9662319954 Question Type : MCQ Option Shuffling : Yes Display Question Number : Yes  
Single Line Question Option : No Option Orientation : Vertical

Correct Marks : 1 Wrong Marks : 0.25

इस अनुच्छेद का कोई उपयुक्त शीर्षक:

Options :

1. ✗ ग्रहण शक्ति

2. ✗ बेमेल शब्द

3. ✗ अंग्रेजी शब्द

4. ✓ हिंदी भाषा

#### Discipline1

Group Number :	6
Group Id :	966231289
Group Maximum Duration :	0
Group Minimum Duration :	0
Revisit allowed for view? :	No
Revisit allowed for edit? :	No
Break time:	0
Group Marks:	20
Revisit allowed for group Instructions? :	Yes
Maximum Instruction Time:	0
Minimum Instruction Time:	0

#### Discipline1

Section Id :	966231404
Section Number :	1
Section type :	Online
Mandatory or Optional:	Mandatory
Number of Questions:	20
Number of Questions to be attempted:	20
Section Marks:	20
Display Number Panel:	Yes
Group All Questions:	No

Sub-Section Number: 1  
Sub-Section Id: 966231458  
Question Shuffling Allowed : Yes

Question Number : 101 Question Id : 9662319955 Question Type : MCQ Option Shuffling : Yes Display Question Number : Yes  
Single Line Question Option : No Option Orientation : Vertical  
Correct Marks : 1 Wrong Marks : 0.25

Supervision is:

Options :

1. ✘ turning upwards
2. ✘ lying on one side
3. ✔ verbal encouragement and observation with the task
4. ✘ lying down in a dorsal position with a pillow under the head

Question Number : 101 Question Id : 9662319955 Question Type : MCQ Option Shuffling : Yes Display Question Number : Yes  
Single Line Question Option : No Option Orientation : Vertical  
Correct Marks : 1 Wrong Marks : 0.25

पर्यवेक्षण क्या है?

Options :

1. ✘ ऊपर की ओर मुड़ना
2. ✘ एक तरफ लेटना
3. ✔ कार्य के साथ मौखिक प्रोत्साहन और अवलोकन
4. ✘ सिर के नीचे एक तकिया के साथ पृष्ठीय स्थिति में लेटना

Question Number : 102 Question Id : 9662319956 Question Type : MCQ Option Shuffling : Yes Display Question Number : Yes  
Single Line Question Option : No Option Orientation : Vertical  
Correct Marks : 1 Wrong Marks : 0.25

Dryness of the mouth is also called:

Options :

1. ✘ glossitis
2. ✘ stomatitis
3. ✘ turgidity



4. ✓ xerostomia

Question Number : 102 Question Id : 9662319956 Question Type : MCQ Option Shuffling : Yes Display Question Number : Yes  
Single Line Question Option : No Option Orientation : Vertical

Correct Marks : 1 Wrong Marks : 0.25

मुंह के सूखेपन को और क्या कहा जाता है?

Options :

1. ✗ ग्लोसाइटिस
2. ✗ स्टोमेटाइटिस
3. ✗ टरजिडीटी
4. ✓ जीरोस्टोमिआ

Question Number : 103 Question Id : 9662319957 Question Type : MCQ Option Shuffling : Yes Display Question Number : Yes  
Single Line Question Option : No Option Orientation : Vertical

Correct Marks : 1 Wrong Marks : 0.25

An example of politico-economic factors that may affect maintenance of a safe environment are:

Options :

1. ✓ finances
2. ✗ anxiety
3. ✗ smoking
4. ✗ beliefs

Question Number : 103 Question Id : 9662319957 Question Type : MCQ Option Shuffling : Yes Display Question Number : Yes  
Single Line Question Option : No Option Orientation : Vertical

Correct Marks : 1 Wrong Marks : 0.25

राजनीतिक-आर्थिक कारकों का एक उदाहरण जो सुरक्षित वातावरण के रखरखाव को प्रभावित कर सकता है:

Options :

1. ✓ वित्त
2. ✗ चिंता
3. ✗ धूम्रपान

#### 4. ✘ धारणाएं

Question Number : 104 Question Id : 9662319958 Question Type : MCQ Option Shuffling : Yes Display Question Number : Yes  
Single Line Question Option : No Option Orientation : Vertical

Correct Marks : 1 Wrong Marks : 0.25

A body fluid found in joints is called:

Options :

1. ✘ peritoneal fluid

2. ✔ synovial fluid

3. ✘ cerebrospinal fluid

4. ✘ amniotic fluid

Question Number : 104 Question Id : 9662319958 Question Type : MCQ Option Shuffling : Yes Display Question Number : Yes  
Single Line Question Option : No Option Orientation : Vertical

Correct Marks : 1 Wrong Marks : 0.25

जोड़ों में पाया जाने वाला एक शारीरिक तरल पदार्थ को क्या कहा जाता है?

Options :

1. ✘ पर्युदर्या (पेरिटोनियल) तरल

2. ✔ श्लेषक तरल

3. ✘ प्रमस्तिष्कमेरु तरल

4. ✘ ऐमनियोटिक तरल

Question Number : 105 Question Id : 9662319959 Question Type : MCQ Option Shuffling : Yes Display Question Number : Yes  
Single Line Question Option : No Option Orientation : Vertical

Correct Marks : 1 Wrong Marks : 0.25

The reason for regular practice of hand-washing techniques in hospitals is for the:

Options :

1. ✘ prevention of posture related degenerations

2. ✔ prevention of cross-infection

3. ✘ prevention of attitude related sickness

4. ✘ maintenance of oral hygiene

Question Number : 105 Question Id : 9662319959 Question Type : MCQ Option Shuffling : Yes Display Question Number : Yes  
Single Line Question Option : No Option Orientation : Vertical

Correct Marks : 1 Wrong Marks : 0.25

अस्पतालों में हाथ धोने की तकनीक के नियमित अभ्यास के लिए क्या कारण है?

Options :

1. ✘ आसन संबंधित अधोगति का निवारण

2. ✔ पार संक्रमण का निवारण

3. ✘ अभिवृत्ति संबंधी बीमारी का निवारण

4. ✘ मौखिक स्वच्छता का रखरखाव

Question Number : 106 Question Id : 9662319960 Question Type : MCQ Option Shuffling : Yes Display Question Number : Yes  
Single Line Question Option : No Option Orientation : Vertical

Correct Marks : 1 Wrong Marks : 0.25

The extra-cellular fluid content in our body is around:

Options :

1. ✘ 3 litres

2. ✘ 6 litres

3. ✘ 9 litres

4. ✔ 12 litres

Question Number : 106 Question Id : 9662319960 Question Type : MCQ Option Shuffling : Yes Display Question Number : Yes  
Single Line Question Option : No Option Orientation : Vertical

Correct Marks : 1 Wrong Marks : 0.25

हमारे शरीर में अतिरिक्त कोशिकीय - तरल पदार्थ \_\_\_\_\_ के आसपास है:

Options :

1. ✘ 3 लीटर

2. ✘ 6 लीटर

3. ✘ 9 लीटर

4. ✓ 12 लीटर

Question Number : 107 Question Id : 9662319961 Question Type : MCQ Option Shuffling : Yes Display Question Number : Yes  
Single Line Question Option : No Option Orientation : Vertical

Correct Marks : 1 Wrong Marks : 0.25

Voice box is another name for the:

Options :

1. ✓ larynx

2. ✗ pharynx

3. ✗ oesophagus

4. ✗ stomach

Question Number : 107 Question Id : 9662319961 Question Type : MCQ Option Shuffling : Yes Display Question Number : Yes  
Single Line Question Option : No Option Orientation : Vertical

Correct Marks : 1 Wrong Marks : 0.25

ध्वनि बॉक्स का अन्य नाम क्या है?

Options :

1. ✓ लैरिक्स / स्वरयंत्र

2. ✗ फैरिक्स / ग्रसनी

3. ✗ ग्रासनली

4. ✗ आमाशय

Question Number : 108 Question Id : 9662319962 Question Type : MCQ Option Shuffling : Yes Display Question Number : Yes  
Single Line Question Option : No Option Orientation : Vertical

Correct Marks : 1 Wrong Marks : 0.25

New-born babies generally require sleep for about:

Options :

1. ✗ 6 hours a day

2. ✗ 9 hours a day

3. ✗ 12 hours a day

4. ✓ 16 hours a day

Question Number : 108 Question Id : 9662319962 Question Type : MCQ Option Shuffling : Yes Display Question Number : Yes  
Single Line Question Option : No Option Orientation : Vertical

Correct Marks : 1 Wrong Marks : 0.25

नवजात शिशुओं को सामान्यतः \_\_\_\_\_ के लिए नींद की आवश्यकता होती है:

Options :

1. ✘ दिन में 6 घंटे
2. ✘ दिन में 9 घंटे
3. ✘ दिन में 12 घंटे
4. ✔ दिन में 16 घंटे

Question Number : 109 Question Id : 9662319963 Question Type : MCQ Option Shuffling : Yes Display Question Number : Yes  
Single Line Question Option : No Option Orientation : Vertical

Correct Marks : 1 Wrong Marks : 0.25

The amount of water excreted as urine per day is about:

Options :

1. ✘ 100ml
2. ✘ 500ml
3. ✘ 1000ml
4. ✔ 1500ml

Question Number : 109 Question Id : 9662319963 Question Type : MCQ Option Shuffling : Yes Display Question Number : Yes  
Single Line Question Option : No Option Orientation : Vertical

Correct Marks : 1 Wrong Marks : 0.25

प्रति दिन मूत्र के रूप में उत्सर्जित पानी की मात्रा कितनी होती है?

Options :

1. ✘ 100 ml
2. ✘ 500 ml
3. ✘ 1000 ml
4. ✔ 1500 ml

Question Number : 110 Question Id : 9662319964 Question Type : MCQ Option Shuffling : Yes Display Question Number : Yes  
Single Line Question Option : No Option Orientation : Vertical

Correct Marks : 1 Wrong Marks : 0.25

Heat stroke usually occurs at temperatures around:

Options :

1. ✘ 35 – 36°C
2. ✘ 36 – 37°C
3. ✘ 38 – 40°C
4. ✔ 41– 42°C

Question Number : 110 Question Id : 9662319964 Question Type : MCQ Option Shuffling : Yes Display Question Number : Yes  
Single Line Question Option : No Option Orientation : Vertical

Correct Marks : 1 Wrong Marks : 0.25

ऊष्माघात आम तौर पर \_\_\_\_\_ तापमान पर होता है।

Options :

1. ✘ 35 से 36°C
2. ✘ 36 से 37°C
3. ✘ 38 से 40°C
4. ✔ 41 से 42°C

Question Number : 111 Question Id : 9662319965 Question Type : MCQ Option Shuffling : Yes Display Question Number : Yes  
Single Line Question Option : No Option Orientation : Vertical

Correct Marks : 1 Wrong Marks : 0.25

The neurotransmitter that decreases feeding is:

Options :

1. ✔ leptin
2. ✘ endorphins
3. ✘ cortisol
4. ✘ ghrelin

Question Number : 111 Question Id : 9662319965 Question Type : MCQ Option Shuffling : Yes Display Question Number : Yes  
Single Line Question Option : No Option Orientation : Vertical

Correct Marks : 1 Wrong Marks : 0.25

खिलाने में कमी करने वाला तंत्रिका संचारक है:

Options :

1. ✓ लेप्टिन
2. ✗ एंडोर्फिन
3. ✗ कोर्टिसोल
4. ✗ घ्रेलिन

Question Number : 112 Question Id : 9662319966 Question Type : MCQ Option Shuffling : Yes Display Question Number : Yes  
Single Line Question Option : No Option Orientation : Vertical

Correct Marks : 1 Wrong Marks : 0.25

The energy liberated from each gram of carbohydrates is:

Options :

1. ✓ 4.1 calories
2. ✗ 9.3 calories
3. ✗ 6.2 calories
4. ✗ 8.3 calories

Question Number : 112 Question Id : 9662319966 Question Type : MCQ Option Shuffling : Yes Display Question Number : Yes  
Single Line Question Option : No Option Orientation : Vertical

Correct Marks : 1 Wrong Marks : 0.25

कार्बोहाइड्रेट के प्रत्येक ग्राम से \_\_\_\_\_ ऊर्जा मुक्त होती है:

Options :

1. ✓ 4.1 कैलोरी
2. ✗ 9.3 कैलोरी
3. ✗ 6.2 कैलोरी
4. ✗ 8.3 कैलोरी

Question Number : 113 Question Id : 9662319967 Question Type : MCQ Option Shuffling : Yes Display Question Number : Yes  
Single Line Question Option : No Option Orientation : Vertical

Correct Marks : 1 Wrong Marks : 0.25

Excess bilirubin in the plasma causes:

Options :

1. ✘ Cyanosis
2. ✔ Jaundice
3. ✘ Cystic fibrosis
4. ✘ Leukaemia

Question Number : 113 Question Id : 9662319967 Question Type : MCQ Option Shuffling : Yes Display Question Number : Yes  
Single Line Question Option : No Option Orientation : Vertical

Correct Marks : 1 Wrong Marks : 0.25

प्लाज्मा में अतिरिक्त बिलिरुबिन होने से \_\_\_\_\_ होता है:

Options :

1. ✘ नीलिया
2. ✔ पीलिया
3. ✘ पुटीय तंतुमयता
4. ✘ श्वेतरक्तता

Question Number : 114 Question Id : 9662319968 Question Type : MCQ Option Shuffling : Yes Display Question Number : Yes  
Single Line Question Option : No Option Orientation : Vertical

Correct Marks : 1 Wrong Marks : 0.25

Hepatic coma is due to the elevated plasma levels of:

Options :

1. ✘ amylase
2. ✔ ammonia
3. ✘ albumin
4. ✘ adenosine

Question Number : 114 Question Id : 9662319968 Question Type : MCQ Option Shuffling : Yes Display Question Number : Yes  
Single Line Question Option : No Option Orientation : Vertical

Correct Marks : 1 Wrong Marks : 0.25

यकृत कोमा बढ़े हुए प्लाज्मा स्तर के कारण होता है:

Options :



1. ✘ ऐमिलेज़
2. ✔ अमोनिया
3. ✘ एल्बुमिन
4. ✘ एडेनोसाइन

Question Number : 115 Question Id : 9662319969 Question Type : MCQ Option Shuffling : Yes Display Question Number : Yes  
Single Line Question Option : No Option Orientation : Vertical

Correct Marks : 1 Wrong Marks : 0.25

Secondary bile acid is:

Options :

1. ✘ taurocholate
2. ✘ cholic acid
3. ✔ lithocolic acid
4. ✘ chenodeoxycholic acid

Question Number : 115 Question Id : 9662319969 Question Type : MCQ Option Shuffling : Yes Display Question Number : Yes  
Single Line Question Option : No Option Orientation : Vertical

Correct Marks : 1 Wrong Marks : 0.25

द्वितीयक पित्त अम्ल है:

Options :

1. ✘ टौरोकोलेट
2. ✘ कॉलिक अम्ल
3. ✔ लिथोकोलिक अम्ल
4. ✘ कीनोडोक्सिकॉलिक अम्ल

Question Number : 116 Question Id : 9662319970 Question Type : MCQ Option Shuffling : Yes Display Question Number : Yes  
Single Line Question Option : No Option Orientation : Vertical

Correct Marks : 1 Wrong Marks : 0.25

An essential component of glutathione peroxidase is:

Options :

1. ✓ selenium
2. ✗ copper
3. ✗ zinc
4. ✗ manganese

Question Number : 116 Question Id : 9662319970 Question Type : MCQ Option Shuffling : Yes Display Question Number : Yes  
Single Line Question Option : No Option Orientation : Vertical

Correct Marks : 1 Wrong Marks : 0.25

ग्लूटाथिओन पेरोक्सिडैस का एक अनिवार्य घटक है \_\_\_\_\_ :

Options :

1. ✓ सेलेनियम
2. ✗ तांबा
3. ✗ जस्ता
4. ✗ मैंगनीज

Question Number : 117 Question Id : 9662319971 Question Type : MCQ Option Shuffling : Yes Display Question Number : Yes  
Single Line Question Option : No Option Orientation : Vertical

Correct Marks : 1 Wrong Marks : 0.25

Profound memory problem with no loss of consciousness is called:

Options :

1. ✓ transient global amnesia
2. ✗ retrograde amnesia
3. ✗ anterograde amnesia
4. ✗ memory loss

Question Number : 117 Question Id : 9662319971 Question Type : MCQ Option Shuffling : Yes Display Question Number : Yes  
Single Line Question Option : No Option Orientation : Vertical

Correct Marks : 1 Wrong Marks : 0.25

चेतना के नुकसान के बिना अतिगंभीर स्मृति समस्या को \_\_\_\_\_ कहा जाता है:

Options :

1. ✓ क्षणिक वैश्विक स्मृतिलोप
2. ✗ प्रतिगामी स्मृतिलोप
3. ✗ ऐन्ट्रोप्रेड स्मृतिलोप
4. ✗ स्मृति हानि

Question Number : 118 Question Id : 9662319972 Question Type : MCQ Option Shuffling : Yes Display Question Number : Yes  
Single Line Question Option : No Option Orientation : Vertical

Correct Marks : 1 Wrong Marks : 0.25

The process of converting physical energy into nervous system activity is called:

Options :

1. ✗ receptor potential
2. ✓ transduction
3. ✗ generator potential
4. ✗ kinesthesia

Question Number : 118 Question Id : 9662319972 Question Type : MCQ Option Shuffling : Yes Display Question Number : Yes  
Single Line Question Option : No Option Orientation : Vertical

Correct Marks : 1 Wrong Marks : 0.25

शारीरिक ऊर्जा को तंत्रिका तंत्र गतिविधि में परिवर्तित करने की प्रक्रिया को \_\_\_\_\_ कहा जाता है:

Options :

1. ✗ ग्राही संभाव्य
2. ✓ पारक्रमण
3. ✗ जनित्र संभाव्य
4. ✗ गति संवेदना

Question Number : 119 Question Id : 9662319973 Question Type : MCQ Option Shuffling : Yes Display Question Number : Yes  
Single Line Question Option : No Option Orientation : Vertical

Correct Marks : 1 Wrong Marks : 0.25

Techniques that enable individuals to project their internal feelings, attitudes, needs or values on a test stimuli and in the process unconsciously reveal their personality is called:

Options :

1. ✘ hypnosis
2. ✘ reinforcement
3. ✘ relaxation technique
4. ✔ projective techniques

Question Number : 119 Question Id : 9662319973 Question Type : MCQ Option Shuffling : Yes Display Question Number : Yes  
Single Line Question Option : No Option Orientation : Vertical

Correct Marks : 1 Wrong Marks : 0.25

तकनीक जो मनुष्यों को परीक्षण उत्तेजनाओं पर उनकी आंतरिक भावनाओं, दृष्टिकोण, आवश्यकताओं या मूल्यों को प्रोजेक्ट करने में सक्षम बनाती हैं और इस प्रक्रिया से उनके व्यक्तित्व को दर्शाती हैं:

Options :

1. ✘ मोहावस्था
2. ✘ प्रबलन
3. ✘ विश्रान्ति तकनीक
4. ✔ प्रक्षेपी तकनीक

Question Number : 120 Question Id : 9662319974 Question Type : MCQ Option Shuffling : Yes Display Question Number : Yes  
Single Line Question Option : No Option Orientation : Vertical

Correct Marks : 1 Wrong Marks : 0.25

Measures taken to prevent the onset of a disease or a disorder is called:

Options :

1. ✘ primary promotion
2. ✔ primary prevention
3. ✘ secondary prevention
4. ✘ tertiary prevention

Question Number : 120 Question Id : 9662319974 Question Type : MCQ Option Shuffling : Yes Display Question Number : Yes  
Single Line Question Option : No Option Orientation : Vertical

Correct Marks : 1 Wrong Marks : 0.25

किसी बीमारी या विकार को शुरुआत में रोकने के लिए किए गए उपायों को \_\_\_\_\_ कहा जाता है:

Options :

1. ✘ प्राथमिक वर्धन
2. ✔ प्राथमिक निवारण
3. ✘ द्वितीयक निवारण
4. ✘ तृतीयक निवारण

#### Discipline2

Group Number :	7
Group Id :	966231290
Group Maximum Duration :	0
Group Minimum Duration :	0
Revisit allowed for view? :	No
Revisit allowed for edit? :	No
Break time:	0
Group Marks:	20
Revisit allowed for group Instructions? :	Yes
Maximum Instruction Time:	0
Minimum Instruction Time:	0

#### Discipline2

Section Id :	966231405
Section Number :	1
Section type :	Online
Mandatory or Optional:	Mandatory
Number of Questions:	20
Number of Questions to be attempted:	20
Section Marks:	20
Display Number Panel:	Yes
Group All Questions:	No

Sub-Section Number:	1
Sub-Section Id:	966231459
Question Shuffling Allowed :	Yes

Question Number : 121 Question Id : 9662319975 Question Type : MCQ Option Shuffling : Yes Display Question Number : Yes  
Single Line Question Option : No Option Orientation : Vertical

Correct Marks : 1 Wrong Marks : 0.25

Health care delivery teams made up of persons from various disciplines who share responsibilities, authorities and decision making are called:

Options :

1.  interdisciplinary teams
2.  multidisciplinary teams
3.  transdisciplinary teams
4.  intradisciplinary teams

Question Number : 121 Question Id : 9662319975 Question Type : MCQ Option Shuffling : Yes Display Question Number : Yes  
Single Line Question Option : No Option Orientation : Vertical

Correct Marks : 1 Wrong Marks : 0.25

स्वास्थ्य देखभाल वितरण दल विभिन्न विषयों के जानकारों से बना है जो जिम्मेदारियों, अधिकारों और निर्णय लेने को साझा करते हैं, उन्हें कहा जाता है:

Options :

1.  अंतर्विषयक दल
2.  बहु-विषयक दल
3.  पार-विषयक दल
4.  अंतःविषयक दल

Question Number : 122 Question Id : 9662319976 Question Type : MCQ Option Shuffling : Yes Display Question Number : Yes  
Single Line Question Option : No Option Orientation : Vertical

Correct Marks : 1 Wrong Marks : 0.25

Couples who may be childless by choice are called:

Options :

1.  parents
2.  dyads
3.  family
4.  pairs

Question Number : 122 Question Id : 9662319976 Question Type : MCQ Option Shuffling : Yes Display Question Number : Yes  
Single Line Question Option : No Option Orientation : Vertical

Correct Marks : 1 Wrong Marks : 0.25

अपनी पसंद से निःसंतान होने वाले जोड़े कहलाते हैं:

Options :

1. ✘ माता पिता
2. ✔ द्वयक
3. ✘ परिवार
4. ✘ युग्म / युगल

Question Number : 123 Question Id : 9662319977 Question Type : MCQ Option Shuffling : Yes Display Question Number : Yes  
Single Line Question Option : No Option Orientation : Vertical

Correct Marks : 1 Wrong Marks : 0.25

Name the type of family that is formed when biologically unrelated individuals, couples or families live together and jointly carry out family functions.

Options :

1. ✘ Heterosexual family
2. ✘ Extended family
3. ✔ Communal family
4. ✘ Homosexual family

Question Number : 123 Question Id : 9662319977 Question Type : MCQ Option Shuffling : Yes Display Question Number : Yes  
Single Line Question Option : No Option Orientation : Vertical

Correct Marks : 1 Wrong Marks : 0.25

उस प्रकार के परिवार का नाम बताइए जिसमें जैविक रूप से असंबंधित व्यक्ति, जोड़े या परिवार एक साथ रहते हैं और संयुक्त रूप से पारिवारिक कार्य करते हैं:

Options :

1. ✘ विषमलैंगिक परिवार
2. ✘ विस्तारित परिवार
3. ✔ सांप्रदायिक परिवार
4. ✘ समलिंगी परिवार

Question Number : 124 Question Id : 9662319978 Question Type : MCQ Option Shuffling : Yes Display Question Number : Yes  
Single Line Question Option : No Option Orientation : Vertical

Correct Marks : 1 Wrong Marks : 0.25

A situation in which a family's or individual's balance is disrupted, requiring development of new coping strategies is called:

Options :

1. ✘ transition
2. ✘ stagnation
3. ✘ strategies
4. ✔ crisis

Question Number : 124 Question Id : 9662319978 Question Type : MCQ Option Shuffling : Yes Display Question Number : Yes  
Single Line Question Option : No Option Orientation : Vertical

Correct Marks : 1 Wrong Marks : 0.25

ऐसी स्थिति जिसमें किसी परिवार या व्यक्ति का संतुलन बाधित हो जाता है, नई सामना करने की रणनीतियों के विकास की आवश्यकता होती है:

Options :

1. ✘ संक्रमण
2. ✘ स्थिरता
3. ✘ रणनीतियाँ
4. ✔ संकट

Question Number : 125 Question Id : 9662319979 Question Type : MCQ Option Shuffling : Yes Display Question Number : Yes  
Single Line Question Option : No Option Orientation : Vertical

Correct Marks : 1 Wrong Marks : 0.25

Breast fibroadenomas are usually detected incidentally during clinical or self-examination and are usually located in the:

Options :

1. ✔ upper outer quadrant
2. ✘ lower outer quadrant
3. ✘ upper inner quadrant
4. ✘ lower inner quadrant

Question Number : 125 Question Id : 9662319979 Question Type : MCQ Option Shuffling : Yes Display Question Number : Yes  
Single Line Question Option : No Option Orientation : Vertical

Correct Marks : 1 Wrong Marks : 0.25



स्तन फाइब्रोएडीनोमा सामान्यतः नैदानिक या स्व-परीक्षण के दौरान संयोग से पाए जाते हैं और सामान्यतः निम्न में स्थित होते हैं:

Options :

1. ✓ ऊपरी बाह्य चतुर्थांश
2. ✗ निम्न (निचले) बाह्य चतुर्थांश
3. ✗ ऊपरी भीतरी चतुर्थांश
4. ✗ निचले भीतरी चतुर्थांश

Question Number : 126 Question Id : 9662319980 Question Type : MCQ Option Shuffling : Yes Display Question Number : Yes  
Single Line Question Option : No Option Orientation : Vertical

Correct Marks : 1 Wrong Marks : 0.25

A dilation and inflammation of the ducts behind the nipple is called:

Options :

1. ✗ intraductal papilloma
2. ✓ duct ectasia
3. ✗ mastitis
4. ✗ fibroadenomas

Question Number : 126 Question Id : 9662319980 Question Type : MCQ Option Shuffling : Yes Display Question Number : Yes  
Single Line Question Option : No Option Orientation : Vertical

Correct Marks : 1 Wrong Marks : 0.25

निपल के पीछे वाहिनी के शोथ और फैलाव को क्या कहा जाता है?

Options :

1. ✗ अंतर्वाहिनी पैपिलोमा
2. ✓ वाहिनी विस्फारण
3. ✗ स्तनशोथ
4. ✗ फाइब्रॉडेनोमा

Question Number : 127 Question Id : 9662319981 Question Type : MCQ Option Shuffling : Yes Display Question Number : Yes  
Single Line Question Option : No Option Orientation : Vertical

Correct Marks : 1 Wrong Marks : 0.25

Cancer that has metastasised to other body organs is presented at what stage in classifying breast cancer?

Options :

1. ✘ Stage I
2. ✘ Stage II
3. ✘ Stage III
4. ✔ Stage IV

Question Number : 127 Question Id : 9662319981 Question Type : MCQ Option Shuffling : Yes Display Question Number : Yes  
Single Line Question Option : No Option Orientation : Vertical

Correct Marks : 1 Wrong Marks : 0.25

कैंसर जो शरीर के अन्य अंगों में फैलता है, स्तन कैंसर के वर्गीकरण में किस स्तर पर प्रस्तुत किया जाता है?

Options :

1. ✘ चरण I
2. ✘ चरण II
3. ✘ चरण III
4. ✔ चरण IV

Question Number : 128 Question Id : 9662319982 Question Type : MCQ Option Shuffling : Yes Display Question Number : Yes  
Single Line Question Option : No Option Orientation : Vertical

Correct Marks : 1 Wrong Marks : 0.25

The second stage of labour ends with:

Options :

1. ✔ the birth of the new-born
2. ✘ strong uterine contractions
3. ✘ a sudden gush of dark blood from the vaginal opening
4. ✘ a change in uterine shape from discoid to globular ovoid

Question Number : 128 Question Id : 9662319982 Question Type : MCQ Option Shuffling : Yes Display Question Number : Yes  
Single Line Question Option : No Option Orientation : Vertical

Correct Marks : 1 Wrong Marks : 0.25

प्रसव का दूसरा चरण \_\_\_\_\_ के साथ समाप्त होता है:

Options :

1. ✓ नवजात का जन्म
2. ✗ प्रबल गर्भाशय संकुचन
3. ✗ योनि के मुहाने से गहरे रक्त का अचानक रिसाव
4. ✗ चक्रिकाभ से गोलाकार डिंब में गर्भाशय के आकार में बदलाव

Question Number : 129 Question Id : 9662319983 Question Type : MCQ Option Shuffling : Yes Display Question Number : Yes  
Single Line Question Option : No Option Orientation : Vertical

Correct Marks : 1 Wrong Marks : 0.25

Kegel exercises as a method of controlling incontinence in women after childbirth and helps to strengthen the:

Options :

1. ✗ upper limb muscles
2. ✗ chest muscles
3. ✗ abdomen muscles
4. ✓ pelvic floor muscles

Question Number : 129 Question Id : 9662319983 Question Type : MCQ Option Shuffling : Yes Display Question Number : Yes  
Single Line Question Option : No Option Orientation : Vertical

Correct Marks : 1 Wrong Marks : 0.25

केगेल, बच्चे के जन्म के बाद महिलाओं में असंयम को नियंत्रित करने में एक विधि के रूप में काम करता है और \_\_\_\_\_ को मजबूत बनाने में मदद करता है:

Options :

1. ✗ ऊपरी अंग की मांसपेशियां
2. ✗ छाती की मांसपेशियाँ
3. ✗ पेट की मांसपेशियाँ
4. ✓ श्रोणि की मांसपेशियां

Question Number : 130 Question Id : 9662319984 Question Type : MCQ Option Shuffling : Yes Display Question Number : Yes  
Single Line Question Option : No Option Orientation : Vertical

Correct Marks : 1 Wrong Marks : 0.25

An instrument that measures foetal oxygen saturation directly and in real time is:

Options :

1.  foetal pulse oximetry
2.  foetal scalp stimulation
3.  vibroacoustic stimulation
4.  ultrasonography

Question Number : 130 Question Id : 9662319984 Question Type : MCQ Option Shuffling : Yes Display Question Number : Yes  
Single Line Question Option : No Option Orientation : Vertical

Correct Marks : 1 Wrong Marks : 0.25

एक उपकरण जो भ्रूण में ऑक्सीजन संतृप्ति को सीधे और वास्तविक समय में मापता है:

Options :

1.  गर्भ नाड़ी ओक्सिमेट्री
2.  गर्भ शिरोवल्क उद्दीपन
3.  वाइब्रोअकूस्टिक उद्दीपन
4.  अल्ट्रासोनोग्राफी

Question Number : 131 Question Id : 9662319985 Question Type : MCQ Option Shuffling : Yes Display Question Number : Yes  
Single Line Question Option : No Option Orientation : Vertical

Correct Marks : 1 Wrong Marks : 0.25

History that includes a menstrual, obstetric and gynaecologic history is called:

Options :

1.  family history
2.  reproductive history
3.  sexual history
4.  genetic history

Question Number : 131 Question Id : 9662319985 Question Type : MCQ Option Shuffling : Yes Display Question Number : Yes  
Single Line Question Option : No Option Orientation : Vertical

Correct Marks : 1 Wrong Marks : 0.25

इतिहास जिसमें ऋतुस्राव, प्रसूति और ज्ञानकोशिकीय (स्त्रीरोगविज्ञान) का इतिहास शामिल किया जाता है, उसे कहते हैं:

Options :

1. ✘ परिवार का इतिहास
2. ✔ प्रजनन इतिहास
3. ✘ यौन इतिहास
4. ✘ आनुवंशिक इतिहास

Question Number : 132 Question Id : 9662319986 Question Type : MCQ Option Shuffling : Yes Display Question Number : Yes  
Single Line Question Option : No Option Orientation : Vertical

Correct Marks : 1 Wrong Marks : 0.25

Identify the disorder when a single gene in the heterozygous state is capable of producing a phenotype:

Options :

1. ✘ x-linked inherited disorders
2. ✘ autosomal recessive inherited disorders
3. ✔ autosomal dominant inherited disorders
4. ✘ multifactorial inherited disorders

Question Number : 132 Question Id : 9662319986 Question Type : MCQ Option Shuffling : Yes Display Question Number : Yes  
Single Line Question Option : No Option Orientation : Vertical

Correct Marks : 1 Wrong Marks : 0.25

विकार की पहचान करें जब विषमयुग्मज अवस्था में एक जीन एक फीनोटाइप का उत्पादन करने में सक्षम होता है:

Options :

1. ✘ X-लिंकड वंशागत विकार
2. ✘ ऑटोसोमल आवर्ती वंशागत विकार
3. ✔ ऑटोसोमल प्रभावी वंशागत विकार
4. ✘ बहुकारक वंशागत विकार

Question Number : 133 Question Id : 9662319987 Question Type : MCQ Option Shuffling : Yes Display Question Number : Yes  
Single Line Question Option : No Option Orientation : Vertical

Correct Marks : 1 Wrong Marks : 0.25

Name the investigating procedure which involves taking x-ray pictures of the bare breasts while they are compressed between two plastic plates.

Options :

1. ✘ sentinel lymph node biopsy
2. ✘ stereotactic needle-guided biopsy
3. ✘ fine-needle aspiration
4. ✔ mammography

Question Number : 133 Question Id : 9662319987 Question Type : MCQ Option Shuffling : Yes Display Question Number : Yes  
Single Line Question Option : No Option Orientation : Vertical

Correct Marks : 1 Wrong Marks : 0.25

जांच प्रक्रिया का नाम बताएँ जिसमें दो प्लास्टिक प्लेटों के बीच संकुचित होने के दौरान स्तनों का एक्स-रे चित्र लेना शामिल है:

Options :

1. ✘ सेंटिनल लसीका गांठ बायोप्सी
2. ✘ स्टीरियोटेक्टिक सुई निर्देशित बायोप्सी
3. ✘ सूक्ष्म- सुई चुषण
4. ✔ मैमोग्राफी

Question Number : 134 Question Id : 9662319988 Question Type : MCQ Option Shuffling : Yes Display Question Number : Yes  
Single Line Question Option : No Option Orientation : Vertical

Correct Marks : 1 Wrong Marks : 0.25

Carbohydrates are divided into simple carbohydrates such as:

Options :

1. ✔ monosaccharides and disaccharides
2. ✘ oligosaccharides and polysaccharides
3. ✘ proteins and fibres
4. ✘ amino acids and enzymes

Question Number : 134 Question Id : 9662319988 Question Type : MCQ Option Shuffling : Yes Display Question Number : Yes  
Single Line Question Option : No Option Orientation : Vertical

Correct Marks : 1 Wrong Marks : 0.25

कार्बोहाइड्रेट को सरल कार्बोहाइड्रेट में विभाजित किया जाता है, उदाहरण के लिए:

Options :

1.  मोनोसेकेराइड और डिसेकेराइड
2.  ऑलिगोसेकेराइड और पॉलीसेकेराइड
3.  प्रोटीन और फाइबर
4.  एमिनो अम्ल और एंजाइम

Question Number : 135 Question Id : 9662319989 Question Type : MCQ Option Shuffling : Yes Display Question Number : Yes  
Single Line Question Option : No Option Orientation : Vertical

Correct Marks : 1 Wrong Marks : 0.25

How many kcal of energy per gram do fats provide?

Options :

1.  8
2.  9
3.  10
4.  11

Question Number : 135 Question Id : 9662319989 Question Type : MCQ Option Shuffling : Yes Display Question Number : Yes  
Single Line Question Option : No Option Orientation : Vertical

Correct Marks : 1 Wrong Marks : 0.25

वसा प्रति ग्राम कितनी kcal ऊर्जा प्रदान करते हैं?

Options :

1.  8
2.  9
3.  10
4.  11

Question Number : 136 Question Id : 9662319990 Question Type : MCQ Option Shuffling : Yes Display Question Number : Yes  
Single Line Question Option : No Option Orientation : Vertical

Correct Marks : 1 Wrong Marks : 0.25

A condition in which there is an inadequate consumption, poor absorption or excessive loss of nutrients is called:

Note: For this question, discrepancy is found in question/answer. So, this question is ignored for all candidates.

Options :

1. over nutrition
2. malnutrition
3. undernutrition
4. excess nutrition

Question Number : 136 Question Id : 9662319990 Question Type : MCQ Option Shuffling : Yes Display Question Number : Yes  
Single Line Question Option : No Option Orientation : Vertical

Correct Marks : 1 Wrong Marks : 0.25

एक ऐसी स्थिति जिसमें पोषक तत्वों की अपर्याप्त खपत, खराब अवशोषण या अत्यधिक हानि होती है, उसे \_\_\_\_\_ कहा जाता है:

Note: For this question, discrepancy is found in question/answer. So, this question is ignored for all candidates.

Options :

1. अधिक पोषण
2. कुपोषण
3. अल्पपोषण
4. अत्यधिक पोषण

Question Number : 137 Question Id : 9662319991 Question Type : MCQ Option Shuffling : Yes Display Question Number : Yes  
Single Line Question Option : No Option Orientation : Vertical

Correct Marks : 1 Wrong Marks : 0.25

An autosomal recessively inherited disease that has been mapped to chromosome 11q is called:

Options :

1. ✘ neurofibromatosis
2. ✘ tuberous sclerosis
3. ✘ Von Hippel-Lindau disease
4. ✔ ataxia-telangiectasia

Question Number : 137 Question Id : 9662319991 Question Type : MCQ Option Shuffling : Yes Display Question Number : Yes  
Single Line Question Option : No Option Orientation : Vertical



Correct Marks : 1 Wrong Marks : 0.25

एक ऑटोसोमल लगातार विरासती बीमारी जिसे क्रोमोसोम IIq से जोड़ा गया है:

Options :

1. ✘ तंत्रिका - तंतु - अर्बुदता
2. ✘ ट्युबरस स्कलेरोसिस
3. ✘ वॉन हिपपेल-लिंडाऊ रोग
4. ✔ ऐटैक्सिया-टेलेंगेक्टिसिया

Question Number : 138 Question Id : 9662319992 Question Type : MCQ Option Shuffling : Yes Display Question Number : Yes  
Single Line Question Option : No Option Orientation : Vertical

Correct Marks : 1 Wrong Marks : 0.25

A chronic infectious disease caused by the mycobacterium tuberculosis is:

Options :

1. ✔ tuberculosis
2. ✘ bronchitis
3. ✘ pneumonia
4. ✘ brucellosis

Question Number : 138 Question Id : 9662319992 Question Type : MCQ Option Shuffling : Yes Display Question Number : Yes  
Single Line Question Option : No Option Orientation : Vertical

Correct Marks : 1 Wrong Marks : 0.25

माइकोबैक्टीरियम तपेदिक के कारण होने वाली एक पुरानी संक्रामक बीमारी है:

Options :

1. ✔ तपेदिक
2. ✘ श्वसनीशोथ
3. ✘ निमोनिया
4. ✘ ब्रुसेलोसिस (ब्रूसेलारुग्णता)

Question Number : 139 Question Id : 9662319993 Question Type : MCQ Option Shuffling : Yes Display Question Number : Yes  
Single Line Question Option : No Option Orientation : Vertical

Correct Marks : 1 Wrong Marks : 0.25

The administration of all or part of a pathogen or preformed antibodies to elicit an immunological response that protects from disease is called:

Options :

1. ✘ vaccination
2. ✘ seroconversion
3. ✘ seroprotection
4. ✔ immunisation

Question Number : 139 Question Id : 9662319993 Question Type : MCQ Option Shuffling : Yes Display Question Number : Yes  
Single Line Question Option : No Option Orientation : Vertical

Correct Marks : 1 Wrong Marks : 0.25

रोगजनक या पूर्व-प्रतिरक्षित एंटीबॉडी के सभी या कुछ भाग की व्यवस्था को एक प्रतिरक्षाविज्ञानी प्रतिक्रिया प्राप्त करने के लिए जो रोग से बचाता है, उसे कहा जाता है:

Options :

1. ✘ टीकाकरण
2. ✘ सेरो रूपांतरण (सेरोकन्वर्शन)
3. ✘ सेरोप्रोटेक्शन
4. ✔ प्रतिरक्षीकरण

Question Number : 140 Question Id : 9662319994 Question Type : MCQ Option Shuffling : Yes Display Question Number : Yes  
Single Line Question Option : No Option Orientation : Vertical

Correct Marks : 1 Wrong Marks : 0.25

Rectal medications are typically supplied in the form of:

Options :

1. ✔ suppositories
2. ✘ liquid
3. ✘ crushed tablets
4. ✘ opened capsules

Question Number : 140 Question Id : 9662319994 Question Type : MCQ Option Shuffling : Yes Display Question Number : Yes  
Single Line Question Option : No Option Orientation : Vertical

Correct Marks : 1 Wrong Marks : 0.25

रेक्टल दवाएं सामान्यतः निम्नलिखित के रूप में दी जाती हैं:

Options :

1. ✓ सपोजीटरी (वर्तिका)
2. ✗ द्रव
3. ✗ कुचली हुई दवाई
4. ✗ खुला कैप्सूल

Discipline3

Group Number :	8
Group Id :	966231291
Group Maximum Duration :	0
Group Minimum Duration :	0
Revisit allowed for view? :	No
Revisit allowed for edit? :	No
Break time:	0
Group Marks:	20
Revisit allowed for group Instructions? :	Yes
Maximum Instruction Time:	0
Minimum Instruction Time:	0

Discipline3

Section Id :	966231406
Section Number :	1
Section type :	Online
Mandatory or Optional:	Mandatory
Number of Questions:	20
Number of Questions to be attempted:	20
Section Marks:	20
Display Number Panel:	Yes
Group All Questions:	No

Sub-Section Number:	1
Sub-Section Id:	966231460
Question Shuffling Allowed :	Yes

Question Number : 141 Question Id : 9662319995 Question Type : MCQ Option Shuffling : Yes Display Question Number : Yes  
Single Line Question Option : No Option Orientation : Vertical

Correct Marks : 1 Wrong Marks : 0.25

Nasally administered medications are typically:

Options :

1. ✘ in liquid form
2. ✔ drops
3. ✘ crushed tablets
4. ✘ opened capsules

Question Number : 141 Question Id : 9662319995 Question Type : MCQ Option Shuffling : Yes Display Question Number : Yes  
Single Line Question Option : No Option Orientation : Vertical

Correct Marks : 1 Wrong Marks : 0.25

नाक प्रशासित दवाएं सामान्यतः किस तरह की होती हैं:

Options :

1. ✘ द्रव रूप
2. ✔ ड्रॉप (बूंद)
3. ✘ कुचली हुई गोली
4. ✘ खुला कैप्सूल

Question Number : 142 Question Id : 9662319996 Question Type : MCQ Option Shuffling : Yes Display Question Number : Yes  
Single Line Question Option : No Option Orientation : Vertical

Correct Marks : 1 Wrong Marks : 0.25

Subcutaneous (SQ) administration distributes medication into the:

Options :

1. ✘ epidermis
2. ✘ muscle
3. ✔ fatty layers
4. ✘ venous

Question Number : 142 Question Id : 9662319996 Question Type : MCQ Option Shuffling : Yes Display Question Number : Yes  
Single Line Question Option : No Option Orientation : Vertical

Correct Marks : 1 Wrong Marks : 0.25

अधस्त्वचीय (SQ) तरीके में \_\_\_\_\_ में दवा को दिया जाता है:

Options :

1. ✘ बाह्यत्वचा , एपिडर्मिस

2. ✘ पेशी

3. ✔ वसीय स्तर

4. ✘ शिरा

Question Number : 143 Question Id : 9662319997 Question Type : MCQ Option Shuffling : Yes Display Question Number : Yes  
Single Line Question Option : No Option Orientation : Vertical

Correct Marks : 1 Wrong Marks : 0.25

An acute respiratory disorder characterized by paroxysmal cough (whooping cough) and copious secretions is called:

Options :

1. ✘ scarlet fever

2. ✘ diphtheria

3. ✘ tetanus

4. ✔ pertussis

Question Number : 143 Question Id : 9662319997 Question Type : MCQ Option Shuffling : Yes Display Question Number : Yes  
Single Line Question Option : No Option Orientation : Vertical

Correct Marks : 1 Wrong Marks : 0.25

एक तीव्र श्वसन विकार जिसे प्रवेगी (पैरोक्सिमल) खांसी (कफ खांसी) और प्रचुर स्राव वर्णित किया जाता है, उसे \_\_\_\_\_ कहा जाता है:

Options :

1. ✘ लाल बुखार

2. ✘ डिफ्थरिया

3. ✘ टेटेनस

4. ✔ काली खांसी

Question Number : 144 Question Id : 9662319998 Question Type : MCQ Option Shuffling : Yes Display Question Number : Yes  
Single Line Question Option : No Option Orientation : Vertical

Correct Marks : 1 Wrong Marks : 0.25

Current recommendations for first mumps immunisation is between:

Options :

1. ✘ 8 – 11 months
2. ✔ 12 – 15 months
3. ✘ 16 – 18 months
4. ✘ 2 – 4 years

Question Number : 144 Question Id : 9662319998 Question Type : MCQ Option Shuffling : Yes Display Question Number : Yes  
Single Line Question Option : No Option Orientation : Vertical

Correct Marks : 1 Wrong Marks : 0.25

प्रथम कण्ठमाला रोग (मम्प्स) टीकाकरण के लिए वर्तमान सिफारिश \_\_\_\_\_ की आयु है:

Options :

1. ✘ 8 से 11 महीने
2. ✔ 12 से 15 महीने
3. ✘ 16 से 18 महीने
4. ✘ 2 से 4 साल

Question Number : 145 Question Id : 9662319999 Question Type : MCQ Option Shuffling : Yes Display Question Number : Yes  
Single Line Question Option : No Option Orientation : Vertical

Correct Marks : 1 Wrong Marks : 0.25

A process that occurs when a proximal segment of bowel 'telescopes' into a more distal segment, causing oedema, vascular compromise and ultimately, partial or total bowel obstruction is called:

Options :

1. ✘ peptic ulcers
2. ✘ gastroesophageal reflux
3. ✘ appendicitis
4. ✔ intussusception

Question Number : 145 Question Id : 9662319999 Question Type : MCQ Option Shuffling : Yes Display Question Number : Yes  
Single Line Question Option : No Option Orientation : Vertical

Correct Marks : 1 Wrong Marks : 0.25

एक प्रक्रिया जो तब होती है जब आंत का एक समीपस्थ खंड अधिक दूरस्थ खंड में 'टेलिस्कोप करता (अंदर घुसता)' है, जिसके कारण शोफ , संवहनी रुकावट और अंत में, आंशिक या कुल आंत्र बाधा होती है, को कहा जाता है:

Options :

1. ✘ पेप्टिक अल्सर
2. ✘ गैस्ट्रोइसोफेगल रिफ्लक्स
3. ✘ उंडुकशोथ
4. ✔ आन्त्रान्त्र प्रवेश (इन्टस्सपेप्शन)

Question Number : 146 Question Id : 96623110000 Question Type : MCQ Option Shuffling : Yes Display Question Number : Yes  
Single Line Question Option : No Option Orientation : Vertical

Correct Marks : 1 Wrong Marks : 0.25

Gas gangrene is associated with:

Options :

1. ✔ clostridium perfringens
2. ✘ clostridium tetani
3. ✘ clostridium novyi
4. ✘ clostridium histolyticum

Question Number : 146 Question Id : 96623110000 Question Type : MCQ Option Shuffling : Yes Display Question Number : Yes  
Single Line Question Option : No Option Orientation : Vertical

Correct Marks : 1 Wrong Marks : 0.25

गैस गैंग्रीन \_\_\_\_\_ के साथ जुड़ा हुआ है:

Options :

1. ✔ क्लॉस्ट्रीडियम परफ्रिंजेन्स
2. ✘ क्लॉस्ट्रीडियम टेटनी
3. ✘ क्लोस्ट्रीडियम नोवी
4. ✘ क्लॉस्ट्रीडियम हिस्टोलिटिकम

Question Number : 147 Question Id : 96623110001 Question Type : MCQ Option Shuffling : Yes Display Question Number : Yes  
Single Line Question Option : No Option Orientation : Vertical

Correct Marks : 1 Wrong Marks : 0.25

Spherical-shaped bacteria are called:

Options :

1. ✘ bacilli
2. ✔ cocci
3. ✘ vibrios
4. ✘ spirilla

Question Number : 147 Question Id : 96623110001 Question Type : MCQ Option Shuffling : Yes Display Question Number : Yes  
Single Line Question Option : No Option Orientation : Vertical

Correct Marks : 1 Wrong Marks : 0.25

गोलाकार आकार के जीवाणु को \_\_\_\_\_ कहा जाता है:

Options :

1. ✘ दण्डाणु (बेसिलाई)
2. ✔ कोकसी
3. ✘ विब्रियो
4. ✘ स्पाइरिला

Question Number : 148 Question Id : 96623110002 Question Type : MCQ Option Shuffling : Yes Display Question Number : Yes  
Single Line Question Option : No Option Orientation : Vertical

Correct Marks : 1 Wrong Marks : 0.25

Bacteria which derive their energy from sunlight is called:

Options :

1. ✘ chemotrophs
2. ✘ autotrophs
3. ✔ phototrophs
4. ✘ heterotrophs

Question Number : 148 Question Id : 96623110002 Question Type : MCQ Option Shuffling : Yes Display Question Number : Yes  
Single Line Question Option : No Option Orientation : Vertical

Correct Marks : 1 Wrong Marks : 0.25

जीवाणु, जो सूर्य के प्रकाश से ऊर्जा प्राप्त करते हैं, उन्हें कहा जाता है:

Options :



1. ✘ रसोपोषी (केमोटरोप्स)
2. ✘ स्वपोषी (ओटोटरोप्स)
3. ✔ प्रकाशपोषी (फोटोटरोप्स)
4. ✘ विषमपोषी (हेटरोटरोप्स)

Question Number : 149 Question Id : 96623110003 Question Type : MCQ Option Shuffling : Yes Display Question Number : Yes  
Single Line Question Option : No Option Orientation : Vertical

Correct Marks : 1 Wrong Marks : 0.25

An example of moist heat is:

Options :

1. ✘ flaming
2. ✘ incineration
3. ✘ hot air oven
4. ✔ steam under pressure

Question Number : 149 Question Id : 96623110003 Question Type : MCQ Option Shuffling : Yes Display Question Number : Yes  
Single Line Question Option : No Option Orientation : Vertical

Correct Marks : 1 Wrong Marks : 0.25

\_\_\_\_\_ नम गर्मी का एक उदाहरण है:

Options :

1. ✘ ज्वालामय
2. ✘ भस्मीकरण
3. ✘ गर्म हवा ओवन
4. ✔ दबाव में भाप लेना

Question Number : 150 Question Id : 96623110004 Question Type : MCQ Option Shuffling : Yes Display Question Number : Yes  
Single Line Question Option : No Option Orientation : Vertical

Correct Marks : 1 Wrong Marks : 0.25

The innermost layer of the heart is called:

Options :

1. ✘ serous pericardium
2. ✘ fibrous pericardium
3. ✘ myocardium
4. ✔ endocardium

Question Number : 150 Question Id : 96623110004 Question Type : MCQ Option Shuffling : Yes Display Question Number : Yes  
Single Line Question Option : No Option Orientation : Vertical

Correct Marks : 1 Wrong Marks : 0.25

हृदय की अंतरतम परत को \_\_\_\_\_ कहा जाता है:

Options :

1. ✘ सीरमी हृदयावरण
2. ✘ तंतुमय हृदयावरण
3. ✘ मायोकार्डियम
4. ✔ अन्तर्हृदकला

Question Number : 151 Question Id : 96623110005 Question Type : MCQ Option Shuffling : Yes Display Question Number : Yes  
Single Line Question Option : No Option Orientation : Vertical

Correct Marks : 1 Wrong Marks : 0.25

The vibration of valves and ventricular walls during the second phase of ventricular filling when the atria contracts, produces the:

Options :

1. ✘ first heart sound
2. ✘ second heart sound
3. ✘ third heart sound
4. ✔ fourth heart sound

Question Number : 151 Question Id : 96623110005 Question Type : MCQ Option Shuffling : Yes Display Question Number : Yes  
Single Line Question Option : No Option Orientation : Vertical

Correct Marks : 1 Wrong Marks : 0.25

निलय भरने के दूसरे चरण के दौरान, जब अलिंद सिकुड़ता है, कपाट (वाल्व) और निलय दीवारों (वेंट्रिकुलर दीवारों) के कंपन से \_\_\_\_\_ पैदा होती है:

Options :

1. ✘ प्रथम हृदय ध्वनि
2. ✘ द्वितीय हृदय ध्वनि
3. ✘ तृतीय हृदय ध्वनि
4. ✔ चतुर्थ हृदय ध्वनि

Question Number : 152 Question Id : 96623110006 Question Type : MCQ Option Shuffling : Yes Display Question Number : Yes  
Single Line Question Option : No Option Orientation : Vertical

Correct Marks : 1 Wrong Marks : 0.25

Inflammatory mediators NOT involved in the pathogenesis of asthma is called:

Options :

1. ✔ adrenaline
2. ✘ prostaglandins
3. ✘ leukotrienes
4. ✘ histamine

Question Number : 152 Question Id : 96623110006 Question Type : MCQ Option Shuffling : Yes Display Question Number : Yes  
Single Line Question Option : No Option Orientation : Vertical

Correct Marks : 1 Wrong Marks : 0.25

अस्थमा के रोगजनन में जो शोध मध्यस्थ शामिल नहीं है, उन्हें कहा जाता है:

Options :

1. ✔ एड्रेनालाईन
2. ✘ प्रोस्टेग्लान्डिन
3. ✘ ल्यूकोट्रीन
4. ✘ हिस्टामीन

Question Number : 153 Question Id : 96623110007 Question Type : MCQ Option Shuffling : Yes Display Question Number : Yes  
Single Line Question Option : No Option Orientation : Vertical

Correct Marks : 1 Wrong Marks : 0.25

The accumulation of pus in the pleural cavity is called:

Options :

1. ✘ hydrothorax
2. ✘ pneumothorax
3. ✘ hemothorax
4. ✔ empyema

Question Number : 153 Question Id : 96623110007 Question Type : MCQ Option Shuffling : Yes Display Question Number : Yes  
Single Line Question Option : No Option Orientation : Vertical

Correct Marks : 1 Wrong Marks : 0.25

फुफ्फुस गुहा में मवाद संचय को कहा जाता है:

Options :

1. ✘ वक्ष-शोथ
2. ✘ वातवक्ष (न्यूमोथोरैक्स)
3. ✘ हेमोथोरैक्स
4. ✔ अंतःपूयता

Question Number : 154 Question Id : 96623110008 Question Type : MCQ Option Shuffling : Yes Display Question Number : Yes  
Single Line Question Option : No Option Orientation : Vertical

Correct Marks : 1 Wrong Marks : 0.25

The removal of fluid from the pleural sac to drain fluid or identify the contents of the fluid is called:

Options :

1. ✔ thoracentesis
2. ✘ amniocentesis
3. ✘ villous sampling
4. ✘ pericardiocentesis

Question Number : 154 Question Id : 96623110008 Question Type : MCQ Option Shuffling : Yes Display Question Number : Yes  
Single Line Question Option : No Option Orientation : Vertical

Correct Marks : 1 Wrong Marks : 0.25

तरल पदार्थ को धीरे-धीरे निकालने या तरल पदार्थ की सामग्री की पहचान करने के लिए फुफ्फुस थैली से तरल पदार्थ को हटाना क्या कहलाता है:

Options :

1. ✓ वक्षवेधन
2. ✘ उल्ववेधन
3. ✘ अंकुर प्रतिचयन
4. ✘ परिह्वेधन

Question Number : 155 Question Id : 96623110009 Question Type : MCQ Option Shuffling : Yes Display Question Number : Yes  
Single Line Question Option : No Option Orientation : Vertical

Correct Marks : 1 Wrong Marks : 0.25

The structure of the neuron that helps in receiving signals is:

Options :

1. ✓ dendrites
2. ✘ axon
3. ✘ terminals
4. ✘ cell body

Question Number : 155 Question Id : 96623110009 Question Type : MCQ Option Shuffling : Yes Display Question Number : Yes  
Single Line Question Option : No Option Orientation : Vertical

Correct Marks : 1 Wrong Marks : 0.25

संकेतों को प्राप्त करने में मदद करने वाले न्यूरॉन की संरचना \_\_\_\_\_ है:

Options :

1. ✓ द्रुमाशम (डेंड्राइट)
2. ✘ अक्षतन्तु (एक्सोन)
3. ✘ अन्तय (टर्मिनल)
4. ✘ कोशिका पिंड

Question Number : 156 Question Id : 96623110010 Question Type : MCQ Option Shuffling : Yes Display Question Number : Yes  
Single Line Question Option : No Option Orientation : Vertical

Correct Marks : 1 Wrong Marks : 0.25

A stroke is also called:

Options :

1. ✘ coronary artery disease
2. ✘ peripheral vascular disease
3. ✔ cerebrovascular accident
4. ✘ myocardial infarction

Question Number : 156 Question Id : 96623110010 Question Type : MCQ Option Shuffling : Yes Display Question Number : Yes  
Single Line Question Option : No Option Orientation : Vertical

Correct Marks : 1 Wrong Marks : 0.25

आघात को निम्न में से \_\_\_\_\_ भी कहा जा सकता है:

Options :

1. ✘ हृदयधमनी रोग
2. ✘ परिधीय वाहिकामय रोग
3. ✔ मस्तिष्कवाहिकीय दुर्घटना
4. ✘ हृत्पेशी रोधगलन

Question Number : 157 Question Id : 96623110011 Question Type : MCQ Option Shuffling : Yes Display Question Number : Yes  
Single Line Question Option : No Option Orientation : Vertical

Correct Marks : 1 Wrong Marks : 0.25

Abnormal electrical activities in the brain is detected by:

Options :

1. ✘ electrocardiogram
2. ✔ electroencephalogram
3. ✘ electromyogram
4. ✘ nerve conduction study

Question Number : 157 Question Id : 96623110011 Question Type : MCQ Option Shuffling : Yes Display Question Number : Yes  
Single Line Question Option : No Option Orientation : Vertical

Correct Marks : 1 Wrong Marks : 0.25

मस्तिष्क में असामान्य विद्युत गतिविधियों का निम्न में से किससे पता चलता है:

Options :

1. ✘ इलेक्ट्रोकार्डियोग्राम ( ई.सी.जी.)
2. ✔ विद्युत्मस्तिष्कलेख (इलेक्ट्रोएन्सेफेलोग्राम)
3. ✘ विद्युत्पेशीलेख (इलेक्ट्रोमायोग्राम)
4. ✘ तंत्रिका चालन अध्ययन

Question Number : 158 Question Id : 96623110012 Question Type : MCQ Option Shuffling : Yes Display Question Number : Yes  
Single Line Question Option : No Option Orientation : Vertical

Correct Marks : 1 Wrong Marks : 0.25

Paralysis of all the four extremities is called:

Options :

1. ✘ monoplegia
2. ✘ paraplegia
3. ✔ quadriplegia
4. ✘ hemiplegia

Question Number : 158 Question Id : 96623110012 Question Type : MCQ Option Shuffling : Yes Display Question Number : Yes  
Single Line Question Option : No Option Orientation : Vertical

Correct Marks : 1 Wrong Marks : 0.25

सभी चार हाथों पैरों के अंगघात को \_\_\_\_\_ कहा जाता है:

Options :

1. ✘ एकांगघात
2. ✘ अधरांगघात
3. ✔ चतुरंगघात
4. ✘ अर्धांगघात

Question Number : 159 Question Id : 96623110013 Question Type : MCQ Option Shuffling : Yes Display Question Number : Yes  
Single Line Question Option : No Option Orientation : Vertical

Correct Marks : 1 Wrong Marks : 0.25

In lumbar puncture, a spinal needle is inserted into the subarachnoid space between level:

Options :

1. ✘ C1 – C2
2. ✔ L4 – L5
3. ✘ T10 – T12
4. ✘ S4 – S5

Question Number : 159 Question Id : 96623110013 Question Type : MCQ Option Shuffling : Yes Display Question Number : Yes  
Single Line Question Option : No Option Orientation : Vertical  
Correct Marks : 1 Wrong Marks : 0.25

कटिवेधन में, एक स्पाइनल सुई को स्तर \_\_\_\_\_ के बीच सबरैक्नॉइड स्पेस में डाला जाता है:

Options :

1. ✘ C1 से C2
2. ✔ L4 से L5
3. ✘ T10 से T12
4. ✘ S4 से S5

Question Number : 160 Question Id : 96623110014 Question Type : MCQ Option Shuffling : Yes Display Question Number : Yes  
Single Line Question Option : No Option Orientation : Vertical  
Correct Marks : 1 Wrong Marks : 0.25

Infection of the bone is called:

Options :

1. ✘ osteoporosis
2. ✘ osteoarthritis
3. ✔ osteomyelitis
4. ✘ osteochondritis

Question Number : 160 Question Id : 96623110014 Question Type : MCQ Option Shuffling : Yes Display Question Number : Yes  
Single Line Question Option : No Option Orientation : Vertical  
Correct Marks : 1 Wrong Marks : 0.25

हड्डी के संक्रमण को कहा जाता है:

Options :

1. ✘ अस्थिसुविरता (ओस्टिओपरोसिस)



2. ✘ अस्थिसंधिशोथ

3. ✔ अस्थिमज्जाशोथ

4. ✘ अस्थि - उपास्थिव्यपजनन

#### Discipline4

Group Number :	9
Group Id :	966231292
Group Maximum Duration :	0
Group Minimum Duration :	0
Revisit allowed for view? :	No
Revisit allowed for edit? :	No
Break time:	0
Group Marks:	20
Revisit allowed for group Instructions? :	Yes
Maximum Instruction Time:	0
Minimum Instruction Time:	0

#### Discipline4

Section Id :	966231407
Section Number :	1
Section type :	Online
Mandatory or Optional:	Mandatory
Number of Questions:	20
Number of Questions to be attempted:	20
Section Marks:	20
Display Number Panel:	Yes
Group All Questions:	No

Sub-Section Number:	1
Sub-Section Id:	966231461
Question Shuffling Allowed :	Yes

Question Number : 161 Question Id : 96623110015 Question Type : MCQ Option Shuffling : Yes Display Question Number : Yes  
Single Line Question Option : No Option Orientation : Vertical

Correct Marks : 1 Wrong Marks : 0.25

The small intestine does NOT involve the:

Options :

1. ✘ duodenum

2. ✔ caecum

3. ✘ jejunum

4. ✘ ileum

Question Number : 161 Question Id : 96623110015 Question Type : MCQ Option Shuffling : Yes Display Question Number : Yes  
Single Line Question Option : No Option Orientation : Vertical

Correct Marks : 1 Wrong Marks : 0.25

क्षुदांत्र में क्या शामिल नहीं है:

Options :

1. ✘ ग्रहणी (डुओडिनम)

2. ✔ उण्डुक

3. ✘ मध्यान्त्र

4. ✘ शेषांत्र

Question Number : 162 Question Id : 96623110016 Question Type : MCQ Option Shuffling : Yes Display Question Number : Yes  
Single Line Question Option : No Option Orientation : Vertical

Correct Marks : 1 Wrong Marks : 0.25

The marriage of two persons on the understanding that as long as there are no children the marriage may be dissolved by mutual consent is called:

Options :

1. ✔ compassionate marriage

2. ✘ monogamy

3. ✘ experimental marriage

4. ✘ exogamy

Question Number : 162 Question Id : 96623110016 Question Type : MCQ Option Shuffling : Yes Display Question Number : Yes  
Single Line Question Option : No Option Orientation : Vertical

Correct Marks : 1 Wrong Marks : 0.25

जब तक कोई संतान न हो, तब तक विवाह को आपसी सहमति से भंग किया जा सकता है, इस समझौते पर दो व्यक्तियों के विवाह को क्या कहते हैं ?

Options :

1. ✔ करुणामय विवाह

2. ✘ एकसंगमनी

3. ✘ प्रायोगिक विवाह

4. ✘ बहिर्विवाह

Question Number : 163 Question Id : 96623110017 Question Type : MCQ Option Shuffling : Yes Display Question Number : Yes  
Single Line Question Option : No Option Orientation : Vertical

Correct Marks : 1 Wrong Marks : 0.25

Which of the following is a suitable area of study in the scope of sociology?

Options :

1. ✘ Trade

2. ✔ Community

3. ✘ Business

4. ✘ Education

Question Number : 163 Question Id : 96623110017 Question Type : MCQ Option Shuffling : Yes Display Question Number : Yes  
Single Line Question Option : No Option Orientation : Vertical

Correct Marks : 1 Wrong Marks : 0.25

निम्नलिखित में से कौन समाजशास्त्र के दायरे में अध्ययन का उपयुक्त क्षेत्र है?

Options :

1. ✘ व्यापार

2. ✔ समुदाय

3. ✘ व्यवसाय

4. ✘ शिक्षा

Question Number : 164 Question Id : 96623110018 Question Type : MCQ Option Shuffling : Yes Display Question Number : Yes  
Single Line Question Option : No Option Orientation : Vertical

Correct Marks : 1 Wrong Marks : 0.25

A group of people organized for a particular purpose or a limited number of purposes is known as:

Options :

1. ✘ community

2. ✘ society

3. ✔ association

4. ✘ institution

Question Number : 164 Question Id : 96623110018 Question Type : MCQ Option Shuffling : Yes Display Question Number : Yes  
Single Line Question Option : No Option Orientation : Vertical

Correct Marks : 1 Wrong Marks : 0.25

एक विशेष उद्देश्य या सीमित संख्या में उद्देश्यों के लिए आयोजित लोगों के समूह को जाना जाता है:

Options :

1. ✘ समुदाय

2. ✘ समाज

3. ✔ मण्डली

4. ✘ संस्था

Question Number : 165 Question Id : 96623110019 Question Type : MCQ Option Shuffling : Yes Display Question Number : Yes  
Single Line Question Option : No Option Orientation : Vertical

Correct Marks : 1 Wrong Marks : 0.25

Which of the following disease is NOT commonly encountered in children?

Options :

1. ✔ Parkinsonism

2. ✘ Measles

3. ✘ Whooping cough

4. ✘ Diarrhoea

Question Number : 165 Question Id : 96623110019 Question Type : MCQ Option Shuffling : Yes Display Question Number : Yes  
Single Line Question Option : No Option Orientation : Vertical

Correct Marks : 1 Wrong Marks : 0.25

निम्न में से कौन सी बीमारी सामान्यतः बच्चों में नहीं पाई जाती है?

Options :

1. ✔ पारकिन्सनता

2. ✘ खसरा

3. ✘ काली खासी

4. ✘ अतिसार

Question Number : 166 Question Id : 96623110020 Question Type : MCQ Option Shuffling : Yes Display Question Number : Yes  
Single Line Question Option : No Option Orientation : Vertical

Correct Marks : 1 Wrong Marks : 0.25

Wernicke's encephalopathy in alcoholics is caused due to:

Options :

1. ✘ fluoride excess

2. ✔ thiamine deficiency

3. ✘ vitamin D deficiency

4. ✘ iodine deficiency

Question Number : 166 Question Id : 96623110020 Question Type : MCQ Option Shuffling : Yes Display Question Number : Yes  
Single Line Question Option : No Option Orientation : Vertical

Correct Marks : 1 Wrong Marks : 0.25

मद्यव्यसनियों (alcoholics) में वर्निक के मस्तिष्कविकृति का कारण होता है:

Options :

1. ✘ फ्लोराइड की अधिकता

2. ✔ थायामाइन की कमी

3. ✘ विटामिन डी (D) की कमी

4. ✘ आयोडीन की कमी

Question Number : 167 Question Id : 96623110021 Question Type : MCQ Option Shuffling : Yes Display Question Number : Yes  
Single Line Question Option : No Option Orientation : Vertical

Correct Marks : 1 Wrong Marks : 0.25

Name the study in which the observations or data are referred to for more than one point of time.

Options :

1. ✘ Evaluative study

2. ✘ Experimental study

3. ✓ Longitudinal study design

4. ✗ Clinical trials

Question Number : 167 Question Id : 96623110021 Question Type : MCQ Option Shuffling : Yes Display Question Number : Yes  
Single Line Question Option : No Option Orientation : Vertical

Correct Marks : 1 Wrong Marks : 0.25

उस अध्ययन का नाम बताएँ जिसमें प्रेक्षणों या डेटा को एक से अधिक समय के लिए संदर्भित किया जाता है।

Options :

1. ✗ मूल्यांकनात्मक अध्ययन

2. ✗ प्रयोगात्मक अध्ययन

3. ✓ देशांतरीय अध्ययन डिजाइन

4. ✗ क्लिनिकल परीक्षण

Question Number : 168 Question Id : 96623110022 Question Type : MCQ Option Shuffling : Yes Display Question Number : Yes  
Single Line Question Option : No Option Orientation : Vertical

Correct Marks : 1 Wrong Marks : 0.25

Burning of coal, oil and other fuels in houses and in factories is called:

Options :

1. ✗ conduction

2. ✗ convention

3. ✗ radiation

4. ✓ combustion

Question Number : 168 Question Id : 96623110022 Question Type : MCQ Option Shuffling : Yes Display Question Number : Yes  
Single Line Question Option : No Option Orientation : Vertical

Correct Marks : 1 Wrong Marks : 0.25

घरों और कारखानों में कोयला, तेल और अन्य ईंधनों के प्रयोग को कहते हैं:

Options :

1. ✗ प्रवाहकत्व

2. ✗ सम्मेलन

3. ✘ विकिरण

4. ✔ दहन

Question Number : 169 Question Id : 96623110023 Question Type : MCQ Option Shuffling : Yes Display Question Number : Yes  
Single Line Question Option : No Option Orientation : Vertical

Correct Marks : 1 Wrong Marks : 0.25

The most important cause of oral cancer is:

Options :

1. ✔ tobacco usage

2. ✘ skipping meals

3. ✘ unhealthy food habits

4. ✘ respiratory tract infections

Question Number : 169 Question Id : 96623110023 Question Type : MCQ Option Shuffling : Yes Display Question Number : Yes  
Single Line Question Option : No Option Orientation : Vertical

Correct Marks : 1 Wrong Marks : 0.25

मुंह के कैंसर का सबसे महत्वपूर्ण कारण है:

Options :

1. ✔ तंबाकू का उपयोग

2. ✘ भोजन लंघन

3. ✘ अस्वास्थ्यकर भोजन की आदतें

4. ✘ श्वसन पथ संक्रमण

Question Number : 170 Question Id : 96623110024 Question Type : MCQ Option Shuffling : Yes Display Question Number : Yes  
Single Line Question Option : No Option Orientation : Vertical

Correct Marks : 1 Wrong Marks : 0.25

Which of the following is NOT pathological wastes?

Options :

1. ✘ Human tissues

2. ✔ Soiled surgical dressings

3. ✘ Blood and other body fluids

4. ✘ Human organs

Question Number : 170 Question Id : 96623110024 Question Type : MCQ Option Shuffling : Yes Display Question Number : Yes  
Single Line Question Option : No Option Orientation : Vertical

Correct Marks : 1 Wrong Marks : 0.25

निम्न में से कौन रोगसंबंधी अपशिष्ट नहीं है?

Options :

1. ✘ मानव कोशिका

2. ✔ शस्त्रकर्म ड्रेसिंग

3. ✘ रक्त और शरीर के अन्य तरल पदार्थ

4. ✘ मानव अंग

Question Number : 171 Question Id : 96623110025 Question Type : MCQ Option Shuffling : Yes Display Question Number : Yes  
Single Line Question Option : No Option Orientation : Vertical

Correct Marks : 1 Wrong Marks : 0.25

The slogan for World Health Day in the year 2012 was:

Options :

1. ✘ Make Hospitals Safe in Emergencies

2. ✘ Urbanization and Health - 1000 cities, 1000 lives

3. ✔ Aging and Health: Good Health adds Life to Years

4. ✘ Antimicrobial Resistance: No action Today, No Cure Tomorrow

Question Number : 171 Question Id : 96623110025 Question Type : MCQ Option Shuffling : Yes Display Question Number : Yes  
Single Line Question Option : No Option Orientation : Vertical

Correct Marks : 1 Wrong Marks : 0.25

वर्ष 2012 में विश्व स्वास्थ्य दिवस के लिए नारा था:

Options :

1. ✘ आपातकालीन स्थिति में अस्पतालों को सुरक्षित बनाएं

2. ✘ शहरीकरण और स्वास्थ्य - 1000 शहरों, 1000 जीवन



3. ✓ उम्र बढ़ना और स्वास्थ्य: अच्छा स्वास्थ्य अच्छा जीवन

4. ✘ प्रतिसूक्ष्मजीवी प्रतिरोध: आज कोई कार्रवाई नहीं, कल कोई इलाज नहीं

Question Number : 172 Question Id : 96623110026 Question Type : MCQ Option Shuffling : Yes Display Question Number : Yes  
Single Line Question Option : No Option Orientation : Vertical

Correct Marks : 1 Wrong Marks : 0.25

A mild grade of mental deficiency is confirmed when the child has an Intelligence quotient (IQ) that varies between:

Options :

1. ✘ 20 and 30 and the mental age is 8 to 11 years

2. ✘ 30 and 40 and the mental age is 8 to 11 years

3. ✘ 40 and 50 and the mental age is 8 to 11 years

4. ✓ 50 and 70 and the mental age is 8 to 11 years

Question Number : 172 Question Id : 96623110026 Question Type : MCQ Option Shuffling : Yes Display Question Number : Yes  
Single Line Question Option : No Option Orientation : Vertical

Correct Marks : 1 Wrong Marks : 0.25

मानसिक कमी के ग्रेड की पुष्टि की जाती है जब बच्चे का इंटेलिजेंस भागफल (IQ) निम्न के बीच होता है:

Options :

1. ✘ 20 और 30 और मानसिक उम्र 8 से 11 वर्ष है

2. ✘ 30 और 40 और मानसिक उम्र 8 से 11 वर्ष है

3. ✘ 40 और 50 और मानसिक उम्र 8 से 11 वर्ष है

4. ✓ 50 और 70 और मानसिक उम्र 8 से 11 वर्ष है

Question Number : 173 Question Id : 96623110027 Question Type : MCQ Option Shuffling : Yes Display Question Number : Yes  
Single Line Question Option : No Option Orientation : Vertical

Correct Marks : 1 Wrong Marks : 0.25

Which of the following is NOT a type of Intrauterine Device (IUD)?

Options :

1. ✘ Lippes loop

2. ✓ Chemical foam tablets

3. ✘ Copper – T

4. ✘ Multiload

Question Number : 173 Question Id : 96623110027 Question Type : MCQ Option Shuffling : Yes Display Question Number : Yes  
Single Line Question Option : No Option Orientation : Vertical

Correct Marks : 1 Wrong Marks : 0.25

निम्नलिखित में से कौन एक प्रकार का अंतर्गर्भाशयी उपकरण (IUD) नहीं है?

Options :

1. ✘ लिपिज़ लूप

2. ✔ रासायनिक फोम गोलियाँ

3. ✘ कॉपर-टी

4. ✘ बहुभार

Question Number : 174 Question Id : 96623110028 Question Type : MCQ Option Shuffling : Yes Display Question Number : Yes  
Single Line Question Option : No Option Orientation : Vertical

Correct Marks : 1 Wrong Marks : 0.25

Neonate is a child between the age of:

Options :

1. ✔ 0 to 4 weeks

2. ✘ 5 to 8 weeks

3. ✘ 9 to 12 weeks

4. ✘ 13 to 16 weeks

Question Number : 174 Question Id : 96623110028 Question Type : MCQ Option Shuffling : Yes Display Question Number : Yes  
Single Line Question Option : No Option Orientation : Vertical

Correct Marks : 1 Wrong Marks : 0.25

नवजात शिशु की आयु \_\_\_\_\_ के बीच होती है:

Options :

1. ✔ 0 से 4 हफ्ते

2. ✘ 5 से 8 हफ्ते

3. ✘ 9 से 12 हफ्ते

4. ✘ 13 से 16 हफ्ते

Question Number : 175 Question Id : 96623110029 Question Type : MCQ Option Shuffling : Yes Display Question Number : Yes  
Single Line Question Option : No Option Orientation : Vertical

Correct Marks : 1 Wrong Marks : 0.25

Which of the following is NOT a non-communicable diseases?

Options :

1. ✘ Diabetes

2. ✘ Blindness

3. ✘ Limitation

4. ✔ Dengue

Question Number : 175 Question Id : 96623110029 Question Type : MCQ Option Shuffling : Yes Display Question Number : Yes  
Single Line Question Option : No Option Orientation : Vertical

Correct Marks : 1 Wrong Marks : 0.25

निम्नलिखित में से कौन गैर-संचारी रोग नहीं है?

Options :

1. ✘ मधुमेह (डायाबिटीज)

2. ✘ अंधता

3. ✘ सीमाबंधन

4. ✔ डेंगू

Question Number : 176 Question Id : 96623110030 Question Type : MCQ Option Shuffling : Yes Display Question Number : Yes  
Single Line Question Option : No Option Orientation : Vertical

Correct Marks : 1 Wrong Marks : 0.25

Out of the following diseases, which is NOT a contact disease?

Options :

1. ✘ Leprosy

2. ✔ Hypertension

3. ✘ Ringworm

4. ✘ Yaws

Question Number : 176 Question Id : 96623110030 Question Type : MCQ Option Shuffling : Yes Display Question Number : Yes  
Single Line Question Option : No Option Orientation : Vertical

Correct Marks : 1 Wrong Marks : 0.25

निम्नलिखित बीमारियों में से, कौन सी संपर्क रोग नहीं है?

Options :

1. ✘ कुष्ठ

2. ✔ अतिरक्तदाब

3. ✘ दद्रु , दाद

4. ✘ याज्ञ

Question Number : 177 Question Id : 96623110031 Question Type : MCQ Option Shuffling : Yes Display Question Number : Yes  
Single Line Question Option : No Option Orientation : Vertical

Correct Marks : 1 Wrong Marks : 0.25

When an epidemic appears simultaneously or successively in more than one country it is called:

Options :

1. ✘ sporadic

2. ✔ pandemic

3. ✘ epizootic

4. ✘ enzootic

Question Number : 177 Question Id : 96623110031 Question Type : MCQ Option Shuffling : Yes Display Question Number : Yes  
Single Line Question Option : No Option Orientation : Vertical

Correct Marks : 1 Wrong Marks : 0.25

जब एक महामारी एक साथ या क्रमिक रूप से एक से अधिक देशों में दिखाई देती है तो इसे कहा जाता है:

Options :

1. ✘ कदाचनिक

2. ✔ विश्वमारी

3. ✘ जंतुमारी

4. ✘ पशुस्थानिक

Question Number : 178 Question Id : 96623110032 Question Type : MCQ Option Shuffling : Yes Display Question Number : Yes  
Single Line Question Option : No Option Orientation : Vertical

Correct Marks : 1 Wrong Marks : 0.25

The start of menstruation is called:

Options :

1. ✘ menopause

2. ✘ menorrhagia

3. ✔ menarche

4. ✘ oligomenorrhoea

Question Number : 178 Question Id : 96623110032 Question Type : MCQ Option Shuffling : Yes Display Question Number : Yes  
Single Line Question Option : No Option Orientation : Vertical

Correct Marks : 1 Wrong Marks : 0.25

रजोधर्म (ऋतुसाव, आर्तव) की शुरुआत को कहा जाता है:

Options :

1. ✘ रजोनिवृत्ति

2. ✘ अत्यार्तव

3. ✔ रजोदर्शन

4. ✘ अल्पार्तव (दीर्घचर्की अल्पार्तव)

Question Number : 179 Question Id : 96623110033 Question Type : MCQ Option Shuffling : Yes Display Question Number : Yes  
Single Line Question Option : No Option Orientation : Vertical

Correct Marks : 1 Wrong Marks : 0.25

The endometrium becomes thickened and more vascular and glandular during the:

Options :

1. ✘ ovulatory phase

2. ✔ secretory phase

3. ✘ follicular phase

4. ✘ proliferative phase

Question Number : 179 Question Id : 96623110033 Question Type : MCQ Option Shuffling : Yes Display Question Number : Yes  
Single Line Question Option : No Option Orientation : Vertical

Correct Marks : 1 Wrong Marks : 0.25

अंतर्गर्भाशयकला (एंडोमेट्रियम) किसके दौरान मोटी, वाहिकामय और ग्रन्थिल हो जाती है:

Options :

1. ✘ डिंबक्षरण प्रावस्था

2. ✔ स्रावी प्रावस्था

3. ✘ पुटकीय प्रावस्था

4. ✘ प्रफली प्रावस्था

Question Number : 180 Question Id : 96623110034 Question Type : MCQ Option Shuffling : Yes Display Question Number : Yes  
Single Line Question Option : No Option Orientation : Vertical

Correct Marks : 1 Wrong Marks : 0.25

The structure in females which is homologous to testis is the:

Options :

1. ✘ uterus

2. ✘ fallopian tube

3. ✘ cervix

4. ✔ ovary

Question Number : 180 Question Id : 96623110034 Question Type : MCQ Option Shuffling : Yes Display Question Number : Yes  
Single Line Question Option : No Option Orientation : Vertical

Correct Marks : 1 Wrong Marks : 0.25

महिलाओं में कौन सी संरचना वृषण में समरूप होने वाली होती है:

Options :

1. ✘ गर्भाशय

2. ✘ फैलोपी - नलिका

3. ✘ ग्रीवा

4. ✔ डिम्बग्रंथि

Discipline5

Group Number :	10
Group Id :	966231293
Group Maximum Duration :	0
Group Minimum Duration :	120
Revisit allowed for view? :	No
Revisit allowed for edit? :	No
Break time:	0
Group Marks:	20
Revisit allowed for group Instructions? :	Yes
Maximum Instruction Time:	0
Minimum Instruction Time:	0

Discipline5

Section Id :	966231408
Section Number :	1
Section type :	Online
Mandatory or Optional:	Mandatory
Number of Questions:	20
Number of Questions to be attempted:	20
Section Marks:	20
Display Number Panel:	Yes
Group All Questions:	No

Sub-Section Number:	1
Sub-Section Id:	966231462
Question Shuffling Allowed :	Yes

Question Number : 181 Question Id : 96623110035 Question Type : MCQ Option Shuffling : Yes Display Question Number : Yes  
Single Line Question Option : No Option Orientation : Vertical

Correct Marks : 1 Wrong Marks : 0.25

The presence of endometrial tissue outside the normal uterine cavity is called:

Options :

1. ✔ endometriosis

2. ✘ menorrhagia

3. ✘ amenorrhoea

4. ✘ menarche

Question Number : 181 Question Id : 96623110035 Question Type : MCQ Option Shuffling : Yes Display Question Number : Yes  
Single Line Question Option : No Option Orientation : Vertical

Correct Marks : 1 Wrong Marks : 0.25

सामान्य गर्भाशय गुहा के बाहर एंडोमेट्रियल ऊतक की उपस्थिति को कहा जाता है:

Options :

1. ✔ अंतर्गर्भाशय - अस्थनता (एन्डोमेट्रियोसिस)

2. ✘ अत्यातर्व

3. ✘ ऐमेनोरहोआ

4. ✘ रजोदर्शन

Question Number : 182 Question Id : 96623110036 Question Type : MCQ Option Shuffling : Yes Display Question Number : Yes  
Single Line Question Option : No Option Orientation : Vertical

Correct Marks : 1 Wrong Marks : 0.25

Which of the following is a hormonal contraceptive?

Options :

1. ✘ Vasectomy

2. ✘ Condoms

3. ✘ Cervical cap

4. ✔ Oral contraceptive

Question Number : 182 Question Id : 96623110036 Question Type : MCQ Option Shuffling : Yes Display Question Number : Yes  
Single Line Question Option : No Option Orientation : Vertical

Correct Marks : 1 Wrong Marks : 0.25

निम्न में से कौन सा हार्मोनल गर्भनिरोधक है?

Options :

1. ✘ शुक्रवाहिकोच्छेदन

2. ✘ कंडोम

3. ✘ सर्विकल कैप



4. ✓ मुखसेव्य गर्भनिरोधक

Question Number : 183 Question Id : 96623110037 Question Type : MCQ Option Shuffling : Yes Display Question Number : Yes  
Single Line Question Option : No Option Orientation : Vertical

Correct Marks : 1 Wrong Marks : 0.25

The mineral content in the bone can be calculated by:

Options :

1. ✗ X-rays
2. ✓ dual energy x-ray absorptiometry
3. ✗ ultrasound
4. ✗ spectrometer

Question Number : 183 Question Id : 96623110037 Question Type : MCQ Option Shuffling : Yes Display Question Number : Yes  
Single Line Question Option : No Option Orientation : Vertical

Correct Marks : 1 Wrong Marks : 0.25

हड्डी में खनिज सामग्री की गणना निम्न द्वारा की जा सकती है:

Options :

1. ✗ एक्स-रे
2. ✓ द्रवित ऊर्जा एक्स-रे अवशोषणमिति
3. ✗ अल्ट्रासाउंड
4. ✗ स्पेक्ट्रोमीटर

Question Number : 184 Question Id : 96623110038 Question Type : MCQ Option Shuffling : Yes Display Question Number : Yes  
Single Line Question Option : No Option Orientation : Vertical

Correct Marks : 1 Wrong Marks : 0.25

The protozoa causing sexually transmitted diseases is:

Options :

1. ✗ chlamydia
2. ✗ gonococcus
3. ✓ trichomonas

4. ✘ herpes simplex virus

Question Number : 184 Question Id : 96623110038 Question Type : MCQ Option Shuffling : Yes Display Question Number : Yes  
Single Line Question Option : No Option Orientation : Vertical

Correct Marks : 1 Wrong Marks : 0.25

प्रोटोजोआ जो यौन संचारित रोगों का कारण होता है::

Options :

1. ✘ क्लैमाइडिया
2. ✘ गोनोकॉक्स
3. ✔ ट्राइकोमोनास
4. ✘ हर्पीज़ विषाणु

Question Number : 185 Question Id : 96623110039 Question Type : MCQ Option Shuffling : Yes Display Question Number : Yes  
Single Line Question Option : No Option Orientation : Vertical

Correct Marks : 1 Wrong Marks : 0.25

HIV is NOT transmitted by:

Options :

1. ✘ intercourse
2. ✘ sharing drug needles
3. ✔ shaking hands
4. ✘ blood transfusion

Question Number : 185 Question Id : 96623110039 Question Type : MCQ Option Shuffling : Yes Display Question Number : Yes  
Single Line Question Option : No Option Orientation : Vertical

Correct Marks : 1 Wrong Marks : 0.25

एच.आई.वी. (HIV) निम्न में किससे फैलता नहीं है:

Options :

1. ✘ संभोग
2. ✘ दवा की सुइयों को साझा करना
3. ✔ हाथ मिलाना

4. ✘ रक्ताधान

Question Number : 186 Question Id : 96623110040 Question Type : MCQ Option Shuffling : Yes Display Question Number : Yes  
Single Line Question Option : No Option Orientation : Vertical

Correct Marks : 1 Wrong Marks : 0.25

Trophoblasts form the:

Options :

1. ✔ placenta

2. ✘ embryo

3. ✘ amnion

4. ✘ ovum

Question Number : 186 Question Id : 96623110040 Question Type : MCQ Option Shuffling : Yes Display Question Number : Yes  
Single Line Question Option : No Option Orientation : Vertical

Correct Marks : 1 Wrong Marks : 0.25

बीजपोषक ट्रोफोब्लास्ट) निम्न मे से क्या बनाते है:

Options :

1. ✔ अपरा

2. ✘ भ्रूण

3. ✘ उल्व (ऐम्नियोन)

4. ✘ अंडाणु

Question Number : 187 Question Id : 96623110041 Question Type : MCQ Option Shuffling : Yes Display Question Number : Yes  
Single Line Question Option : No Option Orientation : Vertical

Correct Marks : 1 Wrong Marks : 0.25

The structure that stores genetic information is the:

Options :

1. ✔ DNA

2. ✘ RNA

3. ✘ mRNA

4. ✘ tRNA 1

Question Number : 187 Question Id : 96623110041 Question Type : MCQ Option Shuffling : Yes Display Question Number : Yes  
Single Line Question Option : No Option Orientation : Vertical

Correct Marks : 1 Wrong Marks : 0.25

आनुवंशिक जानकारी को संग्रहीत करने वाली संरचना निम्न है:

Options :

1. ✓ डी. एन. ए. (DNA)
2. ✗ आर. एन. ए. (RNA)
3. ✗ एम. आर. एन. ए. (mRNA)
4. ✗ टी. आर. एन. ए. 1 (tRNA 1)

Question Number : 188 Question Id : 96623110042 Question Type : MCQ Option Shuffling : Yes Display Question Number : Yes  
Single Line Question Option : No Option Orientation : Vertical

Correct Marks : 1 Wrong Marks : 0.25

Wharton's jelly is found in the:

Options :

1. ✗ lungs
2. ✗ heart
3. ✓ umbilical cord
4. ✗ stomach

Question Number : 188 Question Id : 96623110042 Question Type : MCQ Option Shuffling : Yes Display Question Number : Yes  
Single Line Question Option : No Option Orientation : Vertical

Correct Marks : 1 Wrong Marks : 0.25

व्हार्टन जेली (Wharton's jelly) किसमे पायी जाती है:

Options :

1. ✗ फेफड़ा
2. ✗ हृदय
3. ✓ नाभी रज्जु
4. ✗ आमाशय

Question Number : 189 Question Id : 96623110043 Question Type : MCQ Option Shuffling : Yes Display Question Number : Yes  
Single Line Question Option : No Option Orientation : Vertical

Correct Marks : 1 Wrong Marks : 0.25

During pregnancy, foetal movements begin between:

Options :

1. ✘ 1 – 4 weeks
2. ✘ 4 – 8 weeks
3. ✘ 10 – 12 weeks
4. ✔ 16 – 20 weeks

Question Number : 189 Question Id : 96623110043 Question Type : MCQ Option Shuffling : Yes Display Question Number : Yes  
Single Line Question Option : No Option Orientation : Vertical

Correct Marks : 1 Wrong Marks : 0.25

गर्भावस्था के दौरान, गर्भ की हलचलें कब शुरू होती हैं:

Options :

1. ✘ 1-4 हफ्ते
2. ✘ 4-8 हफ्ते
3. ✘ 10-12 हफ्ते
4. ✔ 16-20 हफ्ते

Question Number : 190 Question Id : 96623110044 Question Type : MCQ Option Shuffling : Yes Display Question Number : Yes  
Single Line Question Option : No Option Orientation : Vertical

Correct Marks : 1 Wrong Marks : 0.25

The type of pelvis most favourable for normal vaginal delivery is:

Options :

1. ✘ android pelvis
2. ✔ gynecoid pelvis
3. ✘ anthropoid pelvis
4. ✘ platypelloid pelvis

Question Number : 190 Question Id : 96623110044 Question Type : MCQ Option Shuffling : Yes Display Question Number : Yes  
Single Line Question Option : No Option Orientation : Vertical

Correct Marks : 1 Wrong Marks : 0.25

सामान्य योनि प्रसव के लिए सबसे अनुकूल श्रोणि का प्रकार है:

Options :

1. ✘ एंड्रॉयड श्रोणि
2. ✔ स्त्रीवत् श्रोणि
3. ✘ वानराम श्रोणि (एन्थ्रोपाँड श्रोणि)
4. ✘ प्लेटीपेलाँड श्रोणि

Question Number : 191 Question Id : 96623110045 Question Type : MCQ Option Shuffling : Yes Display Question Number : Yes  
Single Line Question Option : No Option Orientation : Vertical

Correct Marks : 1 Wrong Marks : 0.25

Ninety five percent of foetal presentations are:

Options :

1. ✘ leg
2. ✔ cephalic
3. ✘ breech
4. ✘ shoulder

Question Number : 191 Question Id : 96623110045 Question Type : MCQ Option Shuffling : Yes Display Question Number : Yes  
Single Line Question Option : No Option Orientation : Vertical

Correct Marks : 1 Wrong Marks : 0.25

गर्भ - प्रस्तुतियों में से 95% (प्रतिशत) होती हैं:

Options :

1. ✘ टांग
2. ✔ शिरस्य
3. ✘ नितम्ब (ब्रीच)
4. ✘ स्कंध

Question Number : 192 Question Id : 96623110046 Question Type : MCQ Option Shuffling : Yes Display Question Number : Yes  
Single Line Question Option : No Option Orientation : Vertical

Correct Marks : 1 Wrong Marks : 0.25

During delivery, placental expulsion comes under:

Options :

1. ✘ stage I
2. ✘ stage II
3. ✔ stage III
4. ✘ stage IV

Question Number : 192 Question Id : 96623110046 Question Type : MCQ Option Shuffling : Yes Display Question Number : Yes  
Single Line Question Option : No Option Orientation : Vertical

Correct Marks : 1 Wrong Marks : 0.25

प्रसव के दौरान, प्लेसेंटल निष्कासन किस के अंतर्गत आता है:

Options :

1. ✘ स्टेज I
2. ✘ स्टेज II
3. ✔ स्टेज III
4. ✘ स्टेज IV

Question Number : 193 Question Id : 96623110047 Question Type : MCQ Option Shuffling : Yes Display Question Number : Yes  
Single Line Question Option : No Option Orientation : Vertical

Correct Marks : 1 Wrong Marks : 0.25

Plato is known as the Father of:

Options :

1. ✔ Idealism
2. ✘ Naturalism
3. ✘ Pragmatism
4. ✘ Realism

Question Number : 193 Question Id : 96623110047 Question Type : MCQ Option Shuffling : Yes Display Question Number : Yes  
Single Line Question Option : No Option Orientation : Vertical

Correct Marks : 1 Wrong Marks : 0.25

प्लेटो को निम्न में से किस सिद्धांत का पिता कहा जाता है:

Options :

1. ✓ आदर्शवाद
2. ✘ प्रकृतिवाद
3. ✘ व्यावहारिकतावाद
4. ✘ यथार्थवाद

Question Number : 194 Question Id : 96623110048 Question Type : MCQ Option Shuffling : Yes Display Question Number : Yes  
Single Line Question Option : No Option Orientation : Vertical

Correct Marks : 1 Wrong Marks : 0.25

A systematic arrangement of the sum total of selected experiences planned by a school for a defined group of students to attain the aims of a particular educational program is called:

Options :

1. ✘ objectives
2. ✓ curriculum
3. ✘ learning
4. ✘ evaluation

Question Number : 194 Question Id : 96623110048 Question Type : MCQ Option Shuffling : Yes Display Question Number : Yes  
Single Line Question Option : No Option Orientation : Vertical

Correct Marks : 1 Wrong Marks : 0.25

एक विशेष शैक्षिक कार्यक्रम के उद्देश्य को प्राप्त करने का छात्रों के एक परिभाषित समूह के लिए एक स्कूल द्वारा योजनाबद्ध चयनित अनुभवों के कुल जोड़ एक व्यवस्थित व्यवस्था को कहा जाता है:

Options :

1. ✘ उद्देश्य
2. ✓ पाठ्यचर्या
3. ✘ सीखना
4. ✘ मूल्यांकन

Question Number : 195 Question Id : 96623110049 Question Type : MCQ Option Shuffling : Yes Display Question Number : Yes  
Single Line Question Option : No Option Orientation : Vertical

Correct Marks : 1 Wrong Marks : 0.25



Which of the following is a technique of supervision?

Options :

1. ✓ Reassurance
2. ✗ Perceptions
3. ✗ Emotions
4. ✗ Values

Question Number : 195 Question Id : 96623110049 Question Type : MCQ Option Shuffling : Yes Display Question Number : Yes  
Single Line Question Option : No Option Orientation : Vertical

Correct Marks : 1 Wrong Marks : 0.25

निम्न में से कौन सी पर्यवेक्षण की एक तकनीक है?

Options :

1. ✓ आश्वासन
2. ✗ धारणाएं
3. ✗ भावनाएं
4. ✗ मूल्य

Question Number : 196 Question Id : 96623110050 Question Type : MCQ Option Shuffling : Yes Display Question Number : Yes  
Single Line Question Option : No Option Orientation : Vertical

Correct Marks : 1 Wrong Marks : 0.25

The Japanese have adapted the principle of human relationship theory which is also commonly known as:

Options :

1. ✗ theory A
2. ✗ theory B
3. ✗ theory Y
4. ✓ theory Z

Question Number : 196 Question Id : 96623110050 Question Type : MCQ Option Shuffling : Yes Display Question Number : Yes  
Single Line Question Option : No Option Orientation : Vertical

Correct Marks : 1 Wrong Marks : 0.25

जापानीयो ने मानवीय संबंधों के सिद्धांत को अनुकूलित किया है जिसे सामान्यतः इस रूप में भी जाना जाता है:

Options :

1. ✘ सिद्धांत A
2. ✘ सिद्धांत B
3. ✘ सिद्धांत Y
4. ✔ सिद्धांत Z

Question Number : 197 Question Id : 96623110051 Question Type : MCQ Option Shuffling : Yes Display Question Number : Yes  
Single Line Question Option : No Option Orientation : Vertical

Correct Marks : 1 Wrong Marks : 0.25

Which of the following is a primary research tradition within anthropology that provides a framework for studying the meanings, patterns, and experiences of a defined cultural group in a holistic fashion?

Options :

1. ✔ Ethnography
2. ✘ Phenomenology
3. ✘ Grounded theory
4. ✘ Survey Study

Question Number : 197 Question Id : 96623110051 Question Type : MCQ Option Shuffling : Yes Display Question Number : Yes  
Single Line Question Option : No Option Orientation : Vertical

Correct Marks : 1 Wrong Marks : 0.25

निम्न में से कौन सा नृविज्ञान के भीतर एक प्राथमिक अनुसंधान परंपरा है जो समग्र तरीके से परिभाषित सांस्कृतिक समूह के अर्थ, पैटर्न, और अनुभवों का अध्ययन करने के लिए रूपरेखा प्रदान करता है?

Options :

1. ✔ नृवंशविज्ञान
2. ✘ फेनोमेनोलॉजी
3. ✘ ग्राउंडेड सिद्धांत
4. ✘ सर्वेक्षण अध्ययन

Question Number : 198 Question Id : 96623110052 Question Type : MCQ Option Shuffling : Yes Display Question Number : Yes  
Single Line Question Option : No Option Orientation : Vertical

Correct Marks : 1 Wrong Marks : 0.25

A statement of the researcher's expectations about relationships between the variables under investigation is:

Options :

1. ✘ research question
2. ✔ hypothesis
3. ✘ objective
4. ✘ research design

Question Number : 198 Question Id : 96623110052 Question Type : MCQ Option Shuffling : Yes Display Question Number : Yes  
Single Line Question Option : No Option Orientation : Vertical

Correct Marks : 1 Wrong Marks : 0.25

जांच के तहत चर के बीच संबंधों के बारे में शोधकर्ता की उम्मीदों का बयान है:

Options :

1. ✘ अनुसंधान प्रश्न
2. ✔ परिकल्पना
3. ✘ वस्तुपरक
4. ✘ अनुसंधान अभिकल्प

Question Number : 199 Question Id : 96623110053 Question Type : MCQ Option Shuffling : Yes Display Question Number : Yes  
Single Line Question Option : No Option Orientation : Vertical

Correct Marks : 1 Wrong Marks : 0.25

The chi-square test is a:

Options :

1. ✘ descriptive test
2. ✘ parametric test
3. ✔ nonparametric test
4. ✘ frequency test

Question Number : 199 Question Id : 96623110053 Question Type : MCQ Option Shuffling : Yes Display Question Number : Yes  
Single Line Question Option : No Option Orientation : Vertical

Correct Marks : 1 Wrong Marks : 0.25

काई - वर्ग परीक्षण किस तरह का परीक्षण है?

Options :

1. ✘ वर्णनात्मक परीक्षण
2. ✘ पैरामीट्रिक परीक्षण
3. ✔ अप्राचलिक परीक्षण
4. ✘ आवृत्ति परीक्षण

Question Number : 200 Question Id : 96623110054 Question Type : MCQ Option Shuffling : Yes Display Question Number : Yes  
Single Line Question Option : No Option Orientation : Vertical

Correct Marks : 1 Wrong Marks : 0.25

The two most frequently used significance levels are referred to as:

Options :

1. ✔ alpha
2. ✘ beta
3. ✘ gamma
4. ✘ delta

Question Number : 200 Question Id : 96623110054 Question Type : MCQ Option Shuffling : Yes Display Question Number : Yes  
Single Line Question Option : No Option Orientation : Vertical

Correct Marks : 1 Wrong Marks : 0.25

दो सबसे अधिक बार इस्तेमाल किये जाने वाले महत्ता स्तर, निम्नानुसार हैं:

Options :

1. ✔ अल्फा
2. ✘ बीटा
3. ✘ गामा
4. ✘ डेल्टा