

Education Consultant India Ltd.

Notations :

- 1.Options shown in green color and with ✓ icon are correct.
- 2.Options shown in red color and with ✘ icon are incorrect.

Question Paper Name:	Stenographer Gr II S2
Subject Name:	Stenographer Gr II
Creation Date:	2019-08-27 15:51:30
Duration:	120
Total Marks:	200
Display Marks:	Yes
Share Answer Key With Delivery Engine:	No
Actual Answer Key:	Yes
Calculator:	None
Magnifying Glass Required?:	No
Ruler Required?:	No
Eraser Required?:	No
Scratch Pad Required?:	No
Rough Sketch/Notepad Required?:	No
Protractor Required?:	No
Show Watermark on Console?:	Yes
Highlighter:	No
Auto Save on Console?:	No

Mental Ability 1

Group Number :	1
Group Id :	998367680
Group Maximum Duration :	0
Group Minimum Duration :	0
Revisit allowed for view? :	No
Revisit allowed for edit? :	No
Break time:	0
Group Marks:	20
Revisit allowed for group Instructions? :	Yes
Maximum Instruction Time:	0
Minimum Instruction Time:	0

Mental Ability 1

Section Id :	998367801
Section Number :	1
Section type :	Online
Mandatory or Optional:	Mandatory
Number of Questions:	20
Number of Questions to be attempted:	20
Section Marks:	20

Display Number Panel: Yes
Group All Questions: No

Sub-Section Number: 1
Sub-Section Id: 9983671019
Question Shuffling Allowed : Yes

Question Number : 1 Question Id : 99836718911 Question Type : MCQ Option Shuffling : Yes Display Question Number : Yes
Single Line Question Option : No Option Orientation : Vertical

Correct Marks : 1 Wrong Marks : 0.25

Which of the following words cannot be made by using the letters from the given word?

DISTRAUGHT

Options :

1. ✓ GHOST
2. ✗ SUGAR
3. ✗ GIRTH
4. ✗ TRIAD

Question Number : 1 Question Id : 99836718911 Question Type : MCQ Option Shuffling : Yes Display Question Number : Yes
Single Line Question Option : No Option Orientation : Vertical

Correct Marks : 1 Wrong Marks : 0.25

निम्नलिखित में से कौन सा शब्द दिए गए शब्द के अक्षरों का उपयोग करके नहीं बनाया जा सकता?

DISTRAUGHT

Options :

1. ✓ GHOST
2. ✗ SUGAR
3. ✗ GIRTH
4. ✗ TRIAD

Question Number : 2 Question Id : 99836718912 Question Type : MCQ Option Shuffling : Yes Display Question Number : Yes
Single Line Question Option : No Option Orientation : Vertical

Correct Marks : 1 Wrong Marks : 0.25

Find the missing term in the following letter series.

U, T, R, O, K, ?

Options :

1. ✗ H
2. ✗ I
3. ✗ J
4. ✓ F

Question Number : 2 Question Id : 99836718912 Question Type : MCQ Option Shuffling : Yes Display Question Number : Yes
Single Line Question Option : No Option Orientation : Vertical

Correct Marks : 1 Wrong Marks : 0.25

निम्नलिखित अक्षर श्रृंखला में लुप्त पद को ज्ञात करें

U, T, R, O, K, ?

Options :

- ✘ H
- ✘ I
- ✘ J
- ✔ F

Question Number : 3 Question Id : 99836718913 Question Type : MCQ Option Shuffling : Yes Display Question Number : Yes
Single Line Question Option : No Option Orientation : Vertical

Correct Marks : 1 Wrong Marks : 0.25

Find the missing term in the following series.

XXOXXOX, XXOXXXO, OXXOXXX, XOXOXXX, XXOOXXX, ?

Options :

- ✔ XXOOXXX
- ✘ XXOXXOX
- ✘ XOXOXXX
- ✘ XXXOXXX

Question Number : 3 Question Id : 99836718913 Question Type : MCQ Option Shuffling : Yes Display Question Number : Yes
Single Line Question Option : No Option Orientation : Vertical

Correct Marks : 1 Wrong Marks : 0.25

निम्नलिखित श्रृंखला में लुप्त पद को ज्ञात करें।

XXOXXOX, XXOXXXO, OXXOXXX, XOXOXXX, XXOOXXX, ?

Options :

- ✔ XXOOXXX
- ✘ XXOXXOX
- ✘ XOXOXXX
- ✘ XXXOXXX

Question Number : 4 Question Id : 99836718914 Question Type : MCQ Option Shuffling : Yes Display Question Number : Yes
Single Line Question Option : No Option Orientation : Vertical

Correct Marks : 1 Wrong Marks : 0.25

Out of the given options, three are similar in a certain manner. However, one option is NOT like the other three. Select the option which is different from the rest.

Options :

- ✘ Father
- ✔ Mother
- ✘ Grandson
- ✘ Grandfather

Question Number : 4 Question Id : 99836718914 Question Type : MCQ Option Shuffling : Yes Display Question Number : Yes
Single Line Question Option : No Option Orientation : Vertical

Correct Marks : 1 Wrong Marks : 0.25

दिए गए विकल्पों में से, तीन एक निश्चित तरीके से समान हैं। हालाँकि, एक विकल्प अन्य तीन की तरह नहीं है। उस विकल्प का चयन करें जो बाकी से अलग है।

Options :

- ✘ पिता
- ✔ माता
- ✘ पोता/नवासा

4. ✖ दादा/नाना

Question Number : 5 Question Id : 99836718915 Question Type : MCQ Option Shuffling : Yes Display Question Number : Yes
Single Line Question Option : No Option Orientation : Vertical

Correct Marks : 1 Wrong Marks : 0.25

Out of the given options, three are similar in a certain manner. However, one option is NOT like the other three. Select the option which is different from the rest.

Options :

1. ✖ BDF
2. ✖ TVX
3. ✔ MOP
4. ✖ NPR

Question Number : 5 Question Id : 99836718915 Question Type : MCQ Option Shuffling : Yes Display Question Number : Yes
Single Line Question Option : No Option Orientation : Vertical

Correct Marks : 1 Wrong Marks : 0.25

दिए गए विकल्पों में से, तीन एक निश्चित तरीके से समान हैं। हालाँकि, एक विकल्प अन्य तीन की तरह नहीं है। उस विकल्प का चयन करें जो बाकी से अलग है।

Options :

1. ✖ BDF
2. ✖ TVX
3. ✔ MOP
4. ✖ NPR

Question Number : 6 Question Id : 99836718916 Question Type : MCQ Option Shuffling : Yes Display Question Number : Yes
Single Line Question Option : No Option Orientation : Vertical

Correct Marks : 1 Wrong Marks : 0.25

In the given options 3 pairs of words are similarly related and one pair is differently related. Find the pair which is differently related.

Options :

1. ✖ Car : Road
2. ✖ Train : Rail Tracks
3. ✔ Aeroplane : Pilot
4. ✖ Boat : River

Question Number : 6 Question Id : 99836718916 Question Type : MCQ Option Shuffling : Yes Display Question Number : Yes
Single Line Question Option : No Option Orientation : Vertical

Correct Marks : 1 Wrong Marks : 0.25

दिए गए विकल्पों में शब्दों की 3 जोड़ी समान रूप से सम्बंधित हैं, और एक जोड़ी अलग तरह से संबंधित है। उस जोड़ी को ज्ञात करें जो अलग तरह से संबंधित है।

Options :

1. ✖ कार : सड़क
2. ✖ रेलगाड़ी : रेल की पटरी
3. ✔ हवाई जहाज : पायलट
4. ✖ नाव : नदी

Question Number : 7 Question Id : 99836718917 Question Type : MCQ Option Shuffling : Yes Display Question Number : Yes
Single Line Question Option : No Option Orientation : Vertical

Correct Marks : 1 Wrong Marks : 0.25

In the given options 3 pairs of words are similarly related and one pair is differently related. Find the pair which is differently related.

Options :

1. ✘ Dog : Kennel
2. ✘ Goat : Pen
3. ✔ Rabbit : Bunny
4. ✘ Hen : Coop

Question Number : 7 Question Id : 99836718917 Question Type : MCQ Option Shuffling : Yes Display Question Number : Yes Single Line Question Option : No Option Orientation : Vertical

Correct Marks : 1 Wrong Marks : 0.25

दिए गए विकल्पों में शब्दों की 3 जोड़ी समान रूप से सम्बंधित हैं, और एक जोड़ी अलग तरह से संबंधित है उस जोड़ी को ज्ञात करें जो अलग तरह से संबंधित है।

Options :

1. ✘ कुत्ता : कुत्ते का घर
2. ✘ बकरी : बाड़ा
3. ✔ खरगोश : खरगोश का बच्चा
4. ✘ मुर्गी : दड़बा

Question Number : 8 Question Id : 99836718918 Question Type : MCQ Option Shuffling : Yes Display Question Number : Yes Single Line Question Option : No Option Orientation : Vertical

Correct Marks : 1 Wrong Marks : 0.25

Select the option that is related to the third term on the same basis as the second term is related to the first term.

AZU : ZAF :: IMY : ?

Options :

1. ✘ HLX
2. ✘ GKW
3. ✘ FJV
4. ✔ RNB

Question Number : 8 Question Id : 99836718918 Question Type : MCQ Option Shuffling : Yes Display Question Number : Yes Single Line Question Option : No Option Orientation : Vertical

Correct Marks : 1 Wrong Marks : 0.25

उस विकल्प का चयन करें जो तीसरे पद से उसी प्रकार से संबंधित है जिस प्रकार से दूसरे पद पहला पद से संबंधित है।

AZU : ZAF :: IMY : ?

Options :

1. ✘ HLX
2. ✘ GKW
3. ✘ FJV
4. ✔ RNB

Question Number : 9 Question Id : 99836718919 Question Type : MCQ Option Shuffling : Yes Display Question Number : Yes Single Line Question Option : No Option Orientation : Vertical

Correct Marks : 1 Wrong Marks : 0.25

From the given options find a pair of letter clusters which is analogous to the given pair.

YEB : BHE

Options :

1. ✓ CSN : FVQ
2. ✗ ZPX : YHN
3. ✗ DTW : ADT
4. ✗ EUX : YHF

Question Number : 9 Question Id : 99836718919 Question Type : MCQ Option Shuffling : Yes Display Question Number : Yes
Single Line Question Option : No Option Orientation : Vertical

Correct Marks : 1 Wrong Marks : 0.25

दिए गए विकल्पों में से अक्षरों की एक जोड़ी को ज्ञात करें, जो दिए गए जोड़े के अनुरूप है।

YEB : BHE

Options :

1. ✓ CSN : FVQ
2. ✗ ZPX : YHN
3. ✗ DTW : ADT
4. ✗ EUX : YHF

Question Number : 10 Question Id : 99836718920 Question Type : MCQ Option Shuffling : Yes Display Question Number : Yes
Single Line Question Option : No Option Orientation : Vertical

Correct Marks : 1 Wrong Marks : 0.25

In a certain code language, if "STEP" is written as "20-21-6-17", then "POSTING" would be written as:

Options :

1. ✗ 17-16-20-21-13-17-12
2. ✗ 17-15-20-21-9-14-8
3. ✗ 17-18-20-21-11-16-10
4. ✓ 17-16-20-21-10-15-8

Question Number : 10 Question Id : 99836718920 Question Type : MCQ Option Shuffling : Yes Display Question Number : Yes
Single Line Question Option : No Option Orientation : Vertical

Correct Marks : 1 Wrong Marks : 0.25

एक निश्चित कोड भाषा में यदि "STEP" को "20-21-6-17" लिखा जाता है, तो "POSTING" को किस प्रकार लिखा जाएगा।

Options :

1. ✗ 17-16-20-21-13-17-12
2. ✗ 17-15-20-21-9-14-8
3. ✗ 17-18-20-21-11-16-10
4. ✓ 17-16-20-21-10-15-8

Question Number : 11 Question Id : 99836718921 Question Type : MCQ Option Shuffling : Yes Display Question Number : Yes
Single Line Question Option : No Option Orientation : Vertical

Correct Marks : 1 Wrong Marks : 0.25

If FEARLESS is the code for RAEFSSSEL then what is the code for POSSIBLE?

Options :

1. ✓ SSOPELBI
2. ✗ SSPOELIB
3. ✗ SSOPIBLE
4. ✗ SSOPEBLI

Question Number : 11 Question Id : 99836718921 Question Type : MCQ Option Shuffling : Yes Display Question Number : Yes
Single Line Question Option : No Option Orientation : Vertical

Correct Marks : 1 Wrong Marks : 0.25

यदि FEARLESS का कोड है RAEFSSEL तो POSSIBLE के लिए कोड क्या है?

Options :

1. ✓ SSOPELBI
2. ✗ SSPOELIB
3. ✗ SSOPIBLE
4. ✗ SSOPEBLI

Question Number : 12 Question Id : 99836718922 Question Type : MCQ Option Shuffling : Yes Display Question Number : Yes
Single Line Question Option : No Option Orientation : Vertical

Correct Marks : 1 Wrong Marks : 0.25

In a certain coding language, if AT = 28 & SKY = 327 then SPARK will be equal to:

Options :

1. ✗ 5625
2. ✓ 5125
3. ✗ 4125
4. ✗ 4625

Question Number : 12 Question Id : 99836718922 Question Type : MCQ Option Shuffling : Yes Display Question Number : Yes
Single Line Question Option : No Option Orientation : Vertical

Correct Marks : 1 Wrong Marks : 0.25

एक निश्चित कोडिंग भाषा में, यदि AT = 28 और SKY = 327 है तो SPARK किसके बराबर होगा?

Options :

1. ✗ 5625
2. ✓ 5125
3. ✗ 4125
4. ✗ 4625

Question Number : 13 Question Id : 99836718923 Question Type : MCQ Option Shuffling : Yes Display Question Number : Yes
Single Line Question Option : No Option Orientation : Vertical

Correct Marks : 1 Wrong Marks : 0.25

K, L, M, N & O are sitting on a bench. N is to the left of O and is at one end. M is to the left of L who is not at the end. Who is to the left of K?

Options :

1. ✗ N
2. ✗ O
3. ✗ M
4. ✓ L

Question Number : 13 Question Id : 99836718923 Question Type : MCQ Option Shuffling : Yes Display Question Number : Yes
Single Line Question Option : No Option Orientation : Vertical

Correct Marks : 1 Wrong Marks : 0.25

K, L, M, N और O एक बेंच पर बैठे हैं। N, O के बाईं ओर है और एक छोर पर है। M, L के बाईं ओर है और L छोर पर नहीं है। K के बाएं में कौन है?

Options :

1. ✗ N
2. ✗ O
3. ✗ M
4. ✓ L

Question Number : 14 Question Id : 99836718924 Question Type : MCQ Option Shuffling : Yes Display Question Number : Yes
Single Line Question Option : No Option Orientation : Vertical

Correct Marks : 1 Wrong Marks : 0.25

A, B, C, D, E and F are sitting in a circle facing the centre. B is opposite A, C and E are sitting next to each other. B is to the right of F who is facing C. Who is to the left of D?

Options :

1. ✘ F
2. ✘ C
3. ✔ A
4. ✘ B

Question Number : 14 Question Id : 99836718924 Question Type : MCQ Option Shuffling : Yes Display Question Number : Yes
Single Line Question Option : No Option Orientation : Vertical

Correct Marks : 1 Wrong Marks : 0.25

A, B, C, D, E और F केंद्र की तरफ मुँह करके एक चक्र में बैठे हैं। B, A के विपरीत है, C और E एक दूसरे के बगल में बैठे हैं। B, F के दाईं ओर है और F, C के मुँह के सामने है। D के बाईं ओर कौन है?

Options :

1. ✘ F
2. ✘ C
3. ✔ A
4. ✘ B

Question Number : 15 Question Id : 99836718925 Question Type : MCQ Option Shuffling : Yes Display Question Number : Yes
Single Line Question Option : No Option Orientation : Vertical

Correct Marks : 1 Wrong Marks : 0.25

Ajay, Yatika, Ganga, Sandhya, Barun and Diya are sitting in a circle facing the centre. Diya is opposite Ganga, Ajay is to the right of Yatika, who is opposite Barun, who is sitting to the right of Ganga. Who is to the left of Sandhya?

Options :

1. ✘ Ajay
2. ✘ Diya
3. ✔ Barun
4. ✘ Ganga

Question Number : 15 Question Id : 99836718925 Question Type : MCQ Option Shuffling : Yes Display Question Number : Yes
Single Line Question Option : No Option Orientation : Vertical

Correct Marks : 1 Wrong Marks : 0.25

अजय, यातिका, गंगा, संध्या, बरुण और दीया केंद्र की तरफ मुँह करके एक चक्र में बैठे हैं। दीया गंगा के विपरीत है, अजय, यातिका के दाईं ओर है, जो बरुण के विपरीत है, जो गंगा के दाईं ओर बैठा है। संध्या के बाईं ओर कौन है?

Options :

1. ✘ अजय
2. ✘ दिया
3. ✔ बरुण
4. ✘ गंगा

Question Number : 16 Question Id : 99836718926 Question Type : MCQ Option Shuffling : Yes Display Question Number : Yes
Single Line Question Option : No Option Orientation : Vertical

Correct Marks : 1 Wrong Marks : 0.25

P, Q, R, S, T and U are sitting in a circle facing the centre. U is opposite T, P and R are not together, R is to the right of S and T is between P and R. Who is to the right of Q?

Options :

1. ✘ S
2. ✘ P
3. ✔ U
4. ✘ T

Question Number : 16 Question Id : 99836718926 Question Type : MCQ Option Shuffling : Yes Display Question Number : Yes
Single Line Question Option : No Option Orientation : Vertical

Correct Marks : 1 Wrong Marks : 0.25

P, Q, R, S, T और U केंद्र की तरफ मुँह करके एक चक्र में बैठे हैं। U, T के विपरीत है, P और R एक साथ नहीं हैं, R, S के दाईं ओर है और T, P और R के बीच में है। Q के दाईं ओर कौन है?

Options :

1. ✘ S
2. ✘ P
3. ✔ U
4. ✘ T

Question Number : 17 Question Id : 99836718927 Question Type : MCQ Option Shuffling : Yes Display Question Number : Yes
Single Line Question Option : No Option Orientation : Vertical

Correct Marks : 1 Wrong Marks : 0.25

Vasa, Tasi, Zayed, Yasmin, Rahim and Ejaz are sitting in a circle facing the centre. Rahim is opposite Ejaz, Yasmin is to the left of Vasa who is opposite Tasi. Who is to the left of Zayed, if Ejaz is between Zayed and Vasa?

Options :

1. ✘ Vasa
2. ✘ Tasi
3. ✘ Rahim
4. ✔ Ejaz

Question Number : 17 Question Id : 99836718927 Question Type : MCQ Option Shuffling : Yes Display Question Number : Yes
Single Line Question Option : No Option Orientation : Vertical

Correct Marks : 1 Wrong Marks : 0.25

वासा, तासी, जायद, यास्मीन, रहीम और एजाज केंद्र के सामने एक घेरे में बैठे हैं। रहीम एजाज के विपरीत है, यास्मीन वासा के बाईं ओर है और वासा तासी के विपरीत है। जायद और वासा के बीच में यदि जायद के बाईं ओर कौन है?

Options :

1. ✘ वासा
2. ✘ तासी
3. ✘ रहीम
4. ✔ एजाज

Question Number : 18 Question Id : 99836718928 Question Type : MCQ Option Shuffling : Yes Display Question Number : Yes
Single Line Question Option : No Option Orientation : Vertical

Correct Marks : 1 Wrong Marks : 0.25

Read the given statement and conclusions carefully and decide which of the conclusions logically follow(s) from the statement.

Statement:

The best way to escape a problem is to ignore it.

Conclusions:

I. Life is dull without problems.

II. To escape a difficulty, one should always have a solution ready.

Options :

1. ✘ Only conclusion I follows
2. ✘ Only conclusion II follows
3. ✘ Both I and II follow
4. ✔ Neither I nor II follows

Question Number : 18 Question Id : 99836718928 Question Type : MCQ Option Shuffling : Yes Display Question Number : Yes
Single Line Question Option : No Option Orientation : Vertical

Correct Marks : 1 Wrong Marks : 0.25

दिए गए कथन और निष्कर्ष को ध्यान से पढ़ें और निर्णय लें कि कथन में से कौन सा निष्कर्ष तार्किक रूप से अनुसरण करता है।

कथन:

किसी समस्या से बचने का सबसे अच्छा तरीका इसे अनदेखा करना है।

निष्कर्ष:

I. जीवन समस्याओं के बिना सुस्त है।

II. एक कठिनाई से बचने के लिए, हमेशा एक समाधान तैयार होना चाहिए।

Options :

1. ✘ केवल निष्कर्ष I अनुसरण करता है
2. ✘ केवल निष्कर्ष II अनुसरण करता है
3. ✘ I और II दोनों अनुसरण करते हैं
4. ✔ न तो I और न ही II अनुसरण करता है

Question Number : 19 Question Id : 99836718929 Question Type : MCQ Option Shuffling : Yes Display Question Number : Yes
Single Line Question Option : No Option Orientation : Vertical

Correct Marks : 1 Wrong Marks : 0.25

In the question two statements are given, followed by two conclusions, I and II. You have to consider the statements to be true even if it seems to be at variance from commonly known facts. You have to decide which of the given conclusions, if any, follows from the given statements.

Statement 1 : All novels are books.

Statement 2 : All books are magazines.

Conclusion I : All novels are magazines.

Conclusion II : Some books are novels.

Options :

1. ✘ Only conclusion I follows
2. ✘ Only conclusion II follows
3. ✔ Both I and II follow
4. ✘ Neither I nor II follows

Question Number : 19 Question Id : 99836718929 Question Type : MCQ Option Shuffling : Yes Display Question Number : Yes
Single Line Question Option : No Option Orientation : Vertical

Correct Marks : 1 Wrong Marks : 0.25

प्रश्न में दो कथन दिए गए हैं, उसके बाद दो निष्कर्ष I और II दिए गए हैं। आपको कथनों को सत्य मानना है, भले ही यह सामान्य रूप से ज्ञात तथ्यों से भिन्न हो। आपको यह तय करना है कि दिए गए कथनों में से कौन सा निष्कर्ष, यदि कोई है, अनुसरण करता है।

कथन 1: सभी उपन्यास पुस्तकें हैं।
कथन 2: सभी पुस्तकें पत्रिकाएँ हैं।

निष्कर्ष I: सभी उपन्यास पत्रिकाएँ हैं।
निष्कर्ष II: कुछ पुस्तकें उपन्यास हैं।

Options :

- ✘ केवल निष्कर्ष I अनुसरण करता है
- ✘ केवल निष्कर्ष II अनुसरण करता है
- ✔ I और II दोनों अनुसरण करते हैं
- ✘ न तो I और न ही II अनुसरण करता है

Question Number : 20 Question Id : 99836718930 Question Type : MCQ Option Shuffling : Yes Display Question Number : Yes Single Line Question Option : No Option Orientation : Vertical

Correct Marks : 1 Wrong Marks : 0.25

Out of the given options, three are similar in a certain manner. However, one option is NOT like the other three. Select the option which is different from the rest.

Options :

- ✔ 132
- ✘ 117
- ✘ 135
- ✘ 153

Question Number : 20 Question Id : 99836718930 Question Type : MCQ Option Shuffling : Yes Display Question Number : Yes Single Line Question Option : No Option Orientation : Vertical

Correct Marks : 1 Wrong Marks : 0.25

दिए गए विकल्पों में से, तीन एक निश्चित तरीके से समान हैं। हालाँकि, एक विकल्प अन्य तीन की तरह नहीं है। उस विकल्प का चयन करें जो बाकी से अलग है।

Options :

- ✔ 132
- ✘ 117
- ✘ 135
- ✘ 153

Mental Ability2

Group Number :	2
Group Id :	998367681
Group Maximum Duration :	0
Group Minimum Duration :	0
Revisit allowed for view? :	No
Revisit allowed for edit? :	No
Break time:	0
Group Marks:	20
Revisit allowed for group Instructions? :	Yes
Maximum Instruction Time:	0
Minimum Instruction Time:	0

Mental Ability2

Section Id :	998367802
Section Number :	1
Section type :	Online
Mandatory or Optional:	Mandatory
Number of Questions:	20
Number of Questions to be attempted:	20
Section Marks:	20
Display Number Panel:	Yes
Group All Questions:	No

Sub-Section Number:	1
Sub-Section Id:	9983671020
Question Shuffling Allowed :	Yes

Question Number : 21 Question Id : 99836718931 Question Type : MCQ Option Shuffling : Yes Display Question Number : Yes
Single Line Question Option : No Option Orientation : Vertical

Correct Marks : 1 Wrong Marks : 0.25

Complete the following number series:

10, 25, 50, 85, 130, 185, ___

Options :

1. ✘ 230
2. ✘ 260
3. ✘ 240
4. ✔ 250

Question Number : 21 Question Id : 99836718931 Question Type : MCQ Option Shuffling : Yes Display Question Number : Yes
Single Line Question Option : No Option Orientation : Vertical

Correct Marks : 1 Wrong Marks : 0.25

निम्नलिखित संख्या श्रृंखला को पूरा करें

10, 25, 50, 85, 130, 185, ___

Options :

1. ✘ 230
2. ✘ 260
3. ✘ 240
4. ✔ 250

Question Number : 22 Question Id : 99836718932 Question Type : MCQ Option Shuffling : Yes Display Question Number : Yes
Single Line Question Option : No Option Orientation : Vertical

Correct Marks : 1 Wrong Marks : 0.25

Which two numbers must be interchanged to correct the given equation?

$8 \times 4 \div 5 + 10 - 2 = 21$

Options :

1. ✘ 10 and 4
2. ✘ 8 and 2
3. ✔ 2 and 5
4. ✘ 5 and 8

Question Number : 22 Question Id : 99836718932 Question Type : MCQ Option Shuffling : Yes Display Question Number : Yes
Single Line Question Option : No Option Orientation : Vertical

Correct Marks : 1 Wrong Marks : 0.25

दिए गए समीकरण को सही बनाने के लिए किन दो संख्याओं को परस्पर स्थानान्तरित करना चाहिए?

$$8 \times 4 \div 5 + 10 - 2 = 21$$

Options :

1. ✘ 10 और 4
2. ✘ 8 और 2
3. ✔ 2 और 5
4. ✘ 5 और 8

Question Number : 23 Question Id : 99836718933 Question Type : MCQ Option Shuffling : Yes Display Question Number : Yes
Single Line Question Option : No Option Orientation : Vertical

Correct Marks : 1 Wrong Marks : 0.25

Select the option that is related to the third number on the same basis as the second number is related to the first number.

$$35 : 49 :: 55 : ?$$

Options :

1. ✘ 70
2. ✘ 72
3. ✘ 75
4. ✔ 77

Question Number : 23 Question Id : 99836718933 Question Type : MCQ Option Shuffling : Yes Display Question Number : Yes
Single Line Question Option : No Option Orientation : Vertical

Correct Marks : 1 Wrong Marks : 0.25

उस विकल्प का चयन करें जो तीसरी संख्या से उसी प्रकार से संबंधित है जिस प्रकार से दूसरी संख्या पहली संख्या से संबंधित है।

$$35 : 49 :: 55 : ?$$

Options :

1. ✘ 70
2. ✘ 72
3. ✘ 75
4. ✔ 77

Question Number : 24 Question Id : 99836718934 Question Type : MCQ Option Shuffling : Yes Display Question Number : Yes
Single Line Question Option : No Option Orientation : Vertical

Correct Marks : 1 Wrong Marks : 0.25

Find the missing number in the given series.

$$-9, -6, -2, ?, 9, 16, 24$$

Options :

1. ✔ 3
2. ✘ 1
3. ✘ 0
4. ✘ 4

Question Number : 24 Question Id : 99836718934 Question Type : MCQ Option Shuffling : Yes Display Question Number : Yes
Single Line Question Option : No Option Orientation : Vertical

Correct Marks : 1 Wrong Marks : 0.25

दी गई श्रृंखला में लुप्त संख्या ज्ञात करें

-9, -6, -2, ?, 9, 16, 24

Options :

1. ✓ 3
2. ✗ 1
3. ✗ 0
4. ✗ 4

Question Number : 25 Question Id : 99836718935 Question Type : MCQ Option Shuffling : Yes Display Question Number : Yes
Single Line Question Option : No Option Orientation : Vertical

Correct Marks : 1 Wrong Marks : 0.25

In the given options 3 pairs of numbers are similarly related and one pair is differently related. Find the pair which is differently related.

Options :

1. ✗ 5, 0.2
2. ✗ 0.25, 4
3. ✗ 10, 0.1
4. ✓ 0.125, 25

Question Number : 25 Question Id : 99836718935 Question Type : MCQ Option Shuffling : Yes Display Question Number : Yes
Single Line Question Option : No Option Orientation : Vertical

Correct Marks : 1 Wrong Marks : 0.25

दिए गए विकल्पों में शब्दों की 3 जोड़ी समान रूप से संबंधित हैं, और एक जोड़ी अलग तरह से संबंधित है। उस जोड़ी को ज्ञात करें जो अलग तरह से संबंधित है।

Options :

1. ✗ 5, 0.2
2. ✗ 0.25, 4
3. ✗ 10, 0.1
4. ✓ 0.125, 25

Question Number : 26 Question Id : 99836718936 Question Type : MCQ Option Shuffling : Yes Display Question Number : Yes
Single Line Question Option : No Option Orientation : Vertical

Correct Marks : 1 Wrong Marks : 0.25

Out of the given options, three are similar in a certain manner. However, one option is NOT like the other three. Select the option which is different from the rest.

Options :

1. ✗ 23
2. ✓ 33
3. ✗ 43
4. ✗ 53

Question Number : 26 Question Id : 99836718936 Question Type : MCQ Option Shuffling : Yes Display Question Number : Yes
Single Line Question Option : No Option Orientation : Vertical

Correct Marks : 1 Wrong Marks : 0.25

दिए गए विकल्पों में से, तीन एक निश्चित तरीके से समान हैं। हालाँकि, एक विकल्प अन्य तीन की तरह नहीं है। उस विकल्प का चयन करें जो बाकी से अलग है।

Options :

1. ✘ 23
2. ✔ 33
3. ✘ 43
4. ✘ 53

Question Number : 27 Question Id : 99836718937 Question Type : MCQ Option Shuffling : Yes Display Question Number : Yes Single Line Question Option : No Option Orientation : Vertical

Correct Marks : 1 Wrong Marks : 0.25

Which two signs should be interchanged to make the below equation mathematically correct?

$$78 - 8 \times 16 \div 4 + 3 = 82$$

Options :

1. ✔ +, x
2. ✘ x, ÷
3. ✘ +, ÷
4. ✘ -, +

Question Number : 27 Question Id : 99836718937 Question Type : MCQ Option Shuffling : Yes Display Question Number : Yes Single Line Question Option : No Option Orientation : Vertical

Correct Marks : 1 Wrong Marks : 0.25

नीचे दिए गए समीकरण को गणितीय रूप से सही बनाने के लिए, किन दो चिन्हों को परस्पर स्थानांतरित करना चाहिए?

$$78 - 8 \times 16 \div 4 + 3 = 82$$

Options :

1. ✔ +, x
2. ✘ x, ÷
3. ✘ +, ÷
4. ✘ -, +

Question Number : 28 Question Id : 99836718938 Question Type : MCQ Option Shuffling : Yes Display Question Number : Yes Single Line Question Option : No Option Orientation : Vertical

Correct Marks : 1 Wrong Marks : 0.25

Which two numbers should be interchanged to make the below equation mathematically correct?

$$36 \times 2 + 72 \div 9 - 21 = 14$$

Options :

1. ✘ 2, 9
2. ✘ 72, 36
3. ✔ 21, 36
4. ✘ 36, 9

Question Number : 28 Question Id : 99836718938 Question Type : MCQ Option Shuffling : Yes Display Question Number : Yes Single Line Question Option : No Option Orientation : Vertical

Correct Marks : 1 Wrong Marks : 0.25

नीचे दिए गए समीकरण को गणितीय रूप से सही बनाने के लिए किन दो संख्याओं को परस्पर स्थानांतरित किया जाना चाहिए?

$$36 \times 2 + 72 \div 9 - 21 = 14$$

Options :

1. ✘ 2, 9
2. ✘ 72, 36

3. ✓ 21, 36

4. ✗ 36, 9

Question Number : 29 Question Id : 99836718939 Question Type : MCQ Option Shuffling : Yes Display Question Number : Yes Single Line Question Option : No Option Orientation : Vertical

Correct Marks : 1 Wrong Marks : 0.25

If $14\#2 = 70$, $10\#2 = 50$, $8\#4 = 20$ then find the value of $18\#3$.

Options :

1. ✗ 150

2. ✗ 54

3. ✗ 36

4. ✓ 60

Question Number : 29 Question Id : 99836718939 Question Type : MCQ Option Shuffling : Yes Display Question Number : Yes Single Line Question Option : No Option Orientation : Vertical

Correct Marks : 1 Wrong Marks : 0.25

यदि $14\#2 = 70$, $10\#2 = 50$, $8\#4 = 20$ तो $18\#3$, का मूल्य ज्ञात करें

Options :

1. ✗ 150

2. ✗ 54

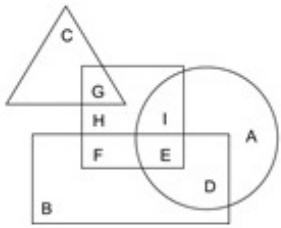
3. ✗ 36

4. ✓ 60

Question Number : 30 Question Id : 99836718940 Question Type : MCQ Option Shuffling : Yes Display Question Number : Yes Single Line Question Option : No Option Orientation : Vertical

Correct Marks : 1 Wrong Marks : 0.25

In the following figure, circle represents electricians, triangle represents fathers, square represents boxers and rectangle represents Indians. Which set of letters represents electricians who are NOT Indians?



Options :

1. ✗ GHI

2. ✗ BD

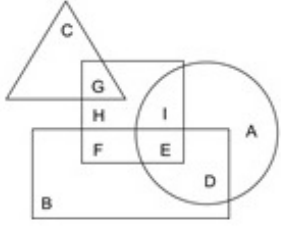
3. ✗ FE

4. ✓ IA

Question Number : 30 Question Id : 99836718940 Question Type : MCQ Option Shuffling : Yes Display Question Number : Yes Single Line Question Option : No Option Orientation : Vertical

Correct Marks : 1 Wrong Marks : 0.25

निम्नलिखित आकृति में, वृत्त बिजली मिस्त्रियों को दर्शाता है, त्रिकोण पिताओं को दर्शाता है, वर्ग मुक्केबाजों को दर्शाता है और आयत भारतीयों को दर्शाता है। अक्षरों का कौन सा सेट बिजली मिस्त्रियों को दर्शाता है जो भारतीय नहीं है?



Options :

1. ✘ GHI
2. ✘ BD
3. ✘ FE
4. ✔ IA

Question Number : 31 Question Id : 99836718941 Question Type : MCQ Option Shuffling : Yes Display Question Number : Yes Single Line Question Option : No Option Orientation : Vertical

Correct Marks : 1 Wrong Marks : 0.25

Which of the following Venn diagrams best represents the relationship between birds, insects and bees?

Options :



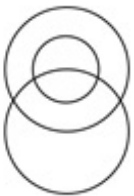
1. ✘



2. ✘



3. ✔



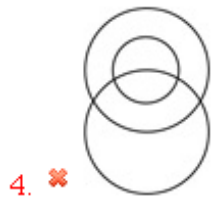
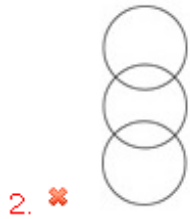
4. ✘

Question Number : 31 Question Id : 99836718941 Question Type : MCQ Option Shuffling : Yes Display Question Number : Yes Single Line Question Option : No Option Orientation : Vertical

Correct Marks : 1 Wrong Marks : 0.25

निम्न में से कौन सा वेन आरेख पक्षियों, कीटों और मधुमक्खियों के बीच के संबंधों को सबसे अच्छा दर्शाता है?

Options :



Question Number : 32 Question Id : 99836718942 Question Type : MCQ Option Shuffling : Yes Display Question Number : Yes
Single Line Question Option : No Option Orientation : Vertical

Correct Marks : 1 Wrong Marks : 0.25

A cyclist goes 4 km East, then turn to his left and travels 3.5 km, then turns East and travels 2.5 km then turns South and travels 5 km, then turns to his right and travels 6.5 km. Where is he now with reference to his starting position?

Options :

1. ✔ 1.5 km South
2. ✘ 1.5 km North
3. ✘ 8.5 km South
4. ✘ 8.5 km North

Question Number : 32 Question Id : 99836718942 Question Type : MCQ Option Shuffling : Yes Display Question Number : Yes
Single Line Question Option : No Option Orientation : Vertical

Correct Marks : 1 Wrong Marks : 0.25

एक साइकिल चालक 4 km पूर्व में जाता है, फिर अपने बाईं ओर मुड़ता है और 3.5 km की यात्रा करता है, फिर पूर्व की ओर मुड़ता है और 2.5 km की यात्रा करता है, फिर दक्षिण की ओर मुड़ता है और 5 km की यात्रा करता है, फिर अपने दाईं ओर मुड़ता है और 6.5 km की यात्रा करता है वह अपने प्रारंभिक बिंदु से कितनी दुरी और किस दिशा में है?

Options :

1. ✔ 1.5 km दक्षिण
2. ✘ 1.5 km उत्तर
3. ✘ 8.5 km दक्षिण
4. ✘ 8.5 km उत्तर

Question Number : 33 Question Id : 99836718943 Question Type : MCQ Option Shuffling : Yes Display Question Number : Yes
Single Line Question Option : No Option Orientation : Vertical

Correct Marks : 1 Wrong Marks : 0.25

Ramesh is facing North-West. He turn 45 degrees to his right, then turns 180 degrees, then turns 90 degrees right. Suresh wants to talk to Ramesh so he stands facing Ramesh. In which direction is Suresh facing?

Options :

1. ✘ North
2. ✘ South
3. ✔ East
4. ✘ West

Question Number : 33 Question Id : 99836718943 Question Type : MCQ Option Shuffling : Yes Display Question Number : Yes
Single Line Question Option : No Option Orientation : Vertical

Correct Marks : 1 Wrong Marks : 0.25

रमेश का मुँह उत्तर-पश्चिम दिशा में है वह 45 डिग्री अपने दाईं ओर मुड़ता है, फिर 180 डिग्री मुड़ता है, फिर 90 डिग्री दाईं ओर मुड़ता है। सुरेश, रमेश से बात करना चाहता है, इसलिए वह रमेश के मुँह की तरफ खड़ा है। सुरेश का मुँह किस दिशा में है?

Options :

1. ✘ उत्तर
2. ✘ दक्षिण
3. ✔ पूर्व
4. ✘ पश्चिम

Question Number : 34 Question Id : 99836718944 Question Type : MCQ Option Shuffling : Yes Display Question Number : Yes
Single Line Question Option : No Option Orientation : Vertical

Correct Marks : 1 Wrong Marks : 0.25

Out of the four options three are similar in a certain way and one is different. Find the option which is different.

Options :

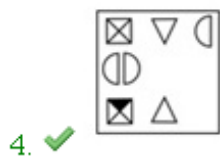


Question Number : 34 Question Id : 99836718944 Question Type : MCQ Option Shuffling : Yes Display Question Number : Yes
Single Line Question Option : No Option Orientation : Vertical

Correct Marks : 1 Wrong Marks : 0.25

चार विकल्पों में से तीन एक निश्चित तरीके से समान हैं और एक अलग है। वह विकल्प ढूँढ़ें जो अलग है।

Options :

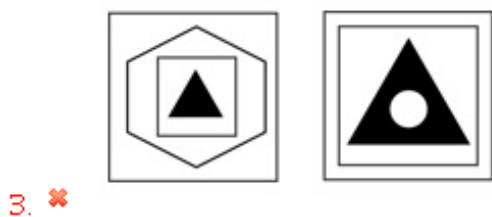
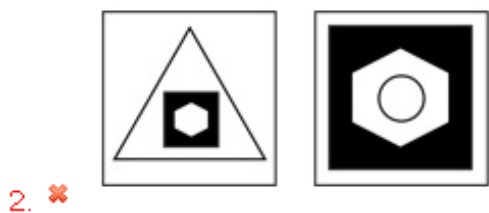
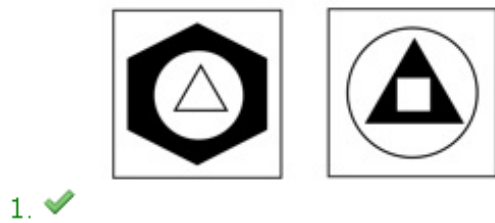


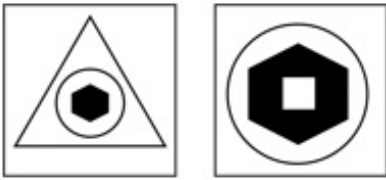
Question Number : 35 Question Id : 99836718945 Question Type : MCQ Option Shuffling : Yes Display Question Number : Yes
Single Line Question Option : No Option Orientation : Vertical

Correct Marks : 1 Wrong Marks : 0.25

Four pairs of figures are given. Three pairs are similar in a certain way and one is different. Find the pair of figure which is different.

Options :





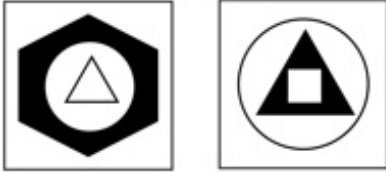
4. ✘

Question Number : 35 Question Id : 99836718945 Question Type : MCQ Option Shuffling : Yes Display Question Number : Yes
Single Line Question Option : No Option Orientation : Vertical

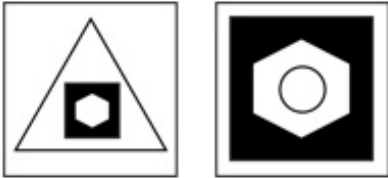
Correct Marks : 1 Wrong Marks : 0.25

आकृतियों की चार जोड़ी दी गई हैं। तीन जोड़े एक निश्चित तरीके से समान हैं और एक अलग है। उस जोड़ी को ज्ञात करें जो अलग है।

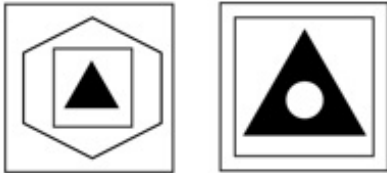
Options :



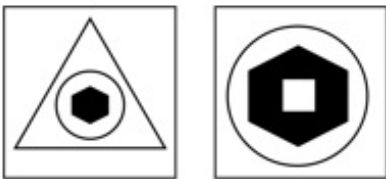
1. ✔



2. ✘



3. ✘

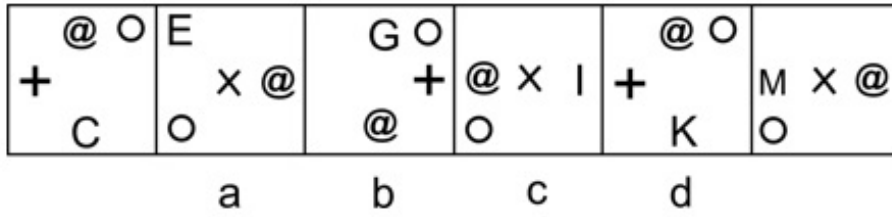


4. ✘

Question Number : 36 Question Id : 99836718946 Question Type : MCQ Option Shuffling : Yes Display Question Number : Yes
Single Line Question Option : No Option Orientation : Vertical

Correct Marks : 1 Wrong Marks : 0.25

A figure series of 6 parts is given. Out these 4 parts are labelled A,B, C and D. One of these 4 parts is incorrect. Find the incorrect part.



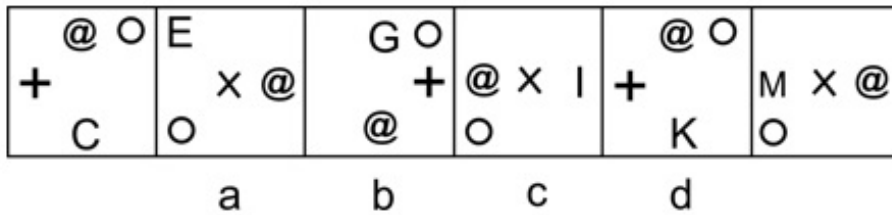
Options :

1. ✓ A
2. ✗ B
3. ✗ C
4. ✗ D

Question Number : 36 Question Id : 99836718946 Question Type : MCQ Option Shuffling : Yes Display Question Number : Yes Single Line Question Option : No Option Orientation : Vertical

Correct Marks : 1 Wrong Marks : 0.25

6 भागों की एक आकृति श्रृंखला दी गई है। इनमें से 4 भागों को A, B, C और D लेबल किया गया है और इन 4 भागों में से एक गलत है। गलत भाग ज्ञात करें।



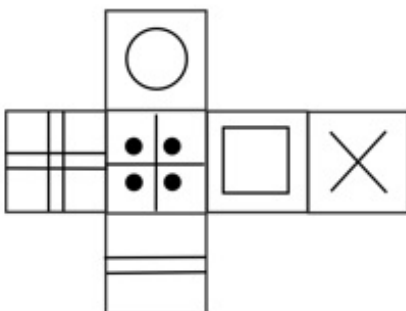
Options :

1. ✓ A
2. ✗ B
3. ✗ C
4. ✗ D

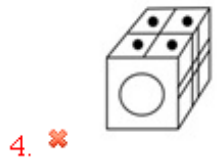
Question Number : 37 Question Id : 99836718947 Question Type : MCQ Option Shuffling : Yes Display Question Number : Yes Single Line Question Option : No Option Orientation : Vertical

Correct Marks : 1 Wrong Marks : 0.25

Which of the following cubes in the answer figures CANNOT be made based on the unfolded cube in the question figure?



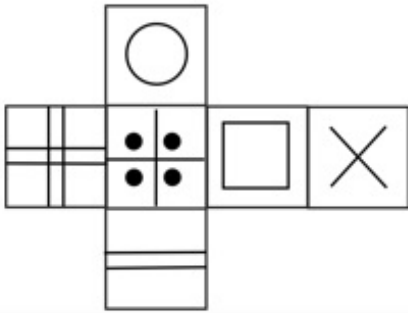
Options :



Question Number : 37 Question Id : 99836718947 Question Type : MCQ Option Shuffling : Yes Display Question Number : Yes Single Line Question Option : No Option Orientation : Vertical

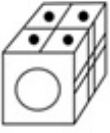
Correct Marks : 1 Wrong Marks : 0.25

उत्तर आकृतियों में किस घन को प्रश्न आकृति में प्रकट घन के आधार पर नहीं बनाया जा सकता है?



Options :



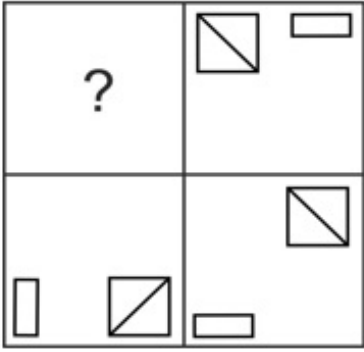


4. ✘

Question Number : 38 Question Id : 99836718948 Question Type : MCQ Option Shuffling : Yes Display Question Number : Yes
Single Line Question Option : No Option Orientation : Vertical

Correct Marks : 1 Wrong Marks : 0.25

Which of the following answer figures completes the pattern shown in the question figure?



Options :



1. ✘



2. ✔



3. ✘

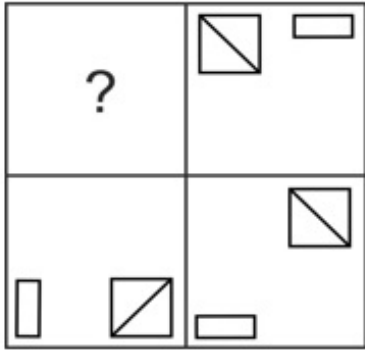


4. ✘

Question Number : 38 Question Id : 99836718948 Question Type : MCQ Option Shuffling : Yes Display Question Number : Yes
Single Line Question Option : No Option Orientation : Vertical

Correct Marks : 1 Wrong Marks : 0.25

निम्नलिखित में से कौन सी उत्तर आकृति, प्रश्न आकृति में दर्शाए गए पैटर्न को पूरा करती है?



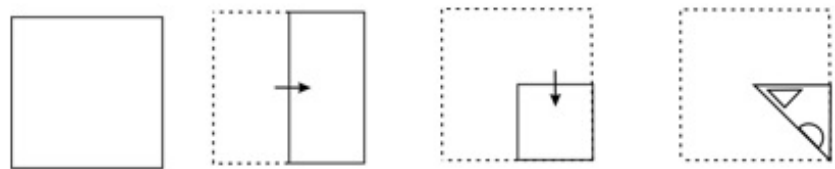
Options :



Question Number : 39 Question Id : 99836718949 Question Type : MCQ Option Shuffling : Yes Display Question Number : Yes Single Line Question Option : No Option Orientation : Vertical

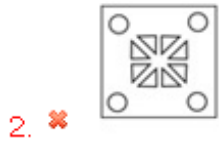
Correct Marks : 1 Wrong Marks : 0.25

A piece of paper is folded and punched as shown below in the question figures. From the given answer figures, indicate how it will appear when opened.



Options :





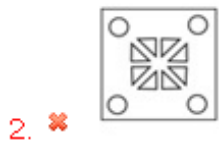
Question Number : 39 Question Id : 99836718949 Question Type : MCQ Option Shuffling : Yes Display Question Number : Yes
Single Line Question Option : No Option Orientation : Vertical

Correct Marks : 1 Wrong Marks : 0.25

पश्च आकृति में नीचे दिखाए अनुसार पेपर के टुकड़े को मोड़कर उसमें छेद किए गए हैं। दी गई उत्तर आकृतियों से, इंगित करें कि इसे खोले जाने पर यह कैसा दिखाई देगा।



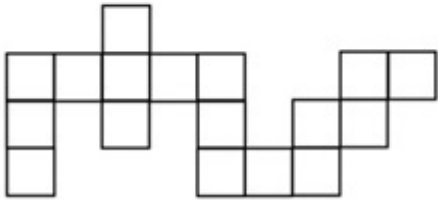
Options :



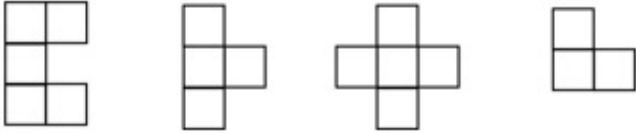
Question Number : 40 Question Id : 99836718950 Question Type : MCQ Option Shuffling : Yes Display Question Number : Yes
Single Line Question Option : No Option Orientation : Vertical

Correct Marks : 1 Wrong Marks : 0.25

Parts given in which option can be joined to create the pattern given in the question figure?



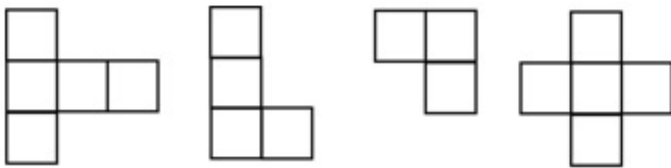
Options :



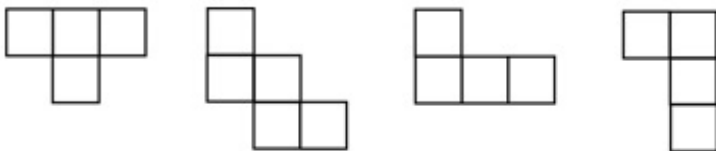
1. ✘



2. ✘



3. ✘

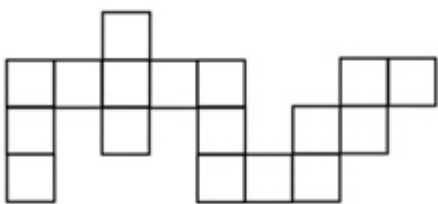


4. ✔

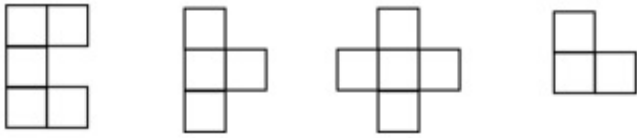
Question Number : 40 Question Id : 99836718950 Question Type : MCQ Option Shuffling : Yes Display Question Number : Yes
Single Line Question Option : No Option Orientation : Vertical

Correct Marks : 1 Wrong Marks : 0.25

प्रश्न आकृति में दिए गए पैटर्न को बनाने के लिए कौन से विकल्प जोड़े जा सकते हैं?



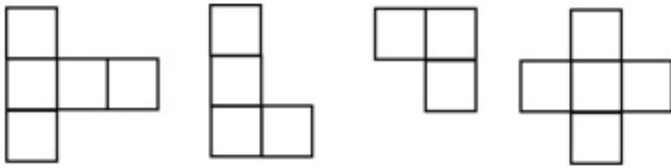
Options :



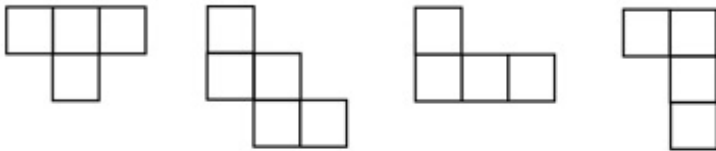
1. ✘



2. ✘



3. ✘



4. ✔

General Awareness1

Group Number :	3
Group Id :	998367682
Group Maximum Duration :	0
Group Minimum Duration :	0
Revisit allowed for view? :	No
Revisit allowed for edit? :	No
Break time:	0
Group Marks:	20
Revisit allowed for group Instructions? :	Yes
Maximum Instruction Time:	0
Minimum Instruction Time:	0

General Awareness1

Section Id :	998367803
Section Number :	1
Section type :	Online
Mandatory or Optional:	Mandatory
Number of Questions:	20
Number of Questions to be attempted:	20

Section Marks:	20
Display Number Panel:	Yes
Group All Questions:	No

Sub-Section Number:	1
Sub-Section Id:	9983671021
Question Shuffling Allowed :	Yes

Question Number : 41 Question Id : 99836718951 Question Type : MCQ Option Shuffling : Yes Display Question Number : Yes
Single Line Question Option : No Option Orientation : Vertical

Correct Marks : 1 Wrong Marks : 0.25

Atta Karagam was traditionally performed by the people of village to praise the _____.

Options :

- ✘ stars
- ✘ moon
- ✘ sun
- ✔ rain

Question Number : 41 Question Id : 99836718951 Question Type : MCQ Option Shuffling : Yes Display Question Number : Yes
Single Line Question Option : No Option Orientation : Vertical

Correct Marks : 1 Wrong Marks : 0.25

अट्टा करगाम को पारंपरिक रूप से _____ की प्रशंसा करने के लिए गांव के लोगों द्वारा प्रदर्शन किया जाता था।

Options :

- ✘ सितारों
- ✘ चांद
- ✘ सूर्य
- ✔ बारिश

Question Number : 42 Question Id : 99836718952 Question Type : MCQ Option Shuffling : Yes Display Question Number : Yes
Single Line Question Option : No Option Orientation : Vertical

Correct Marks : 1 Wrong Marks : 0.25

Teejan Bai is associated with which of the following folk musics?

Options :

- ✘ Bhaitali
- ✔ Pandavani
- ✘ Lavani
- ✘ Bihugeet

Question Number : 42 Question Id : 99836718952 Question Type : MCQ Option Shuffling : Yes Display Question Number : Yes
Single Line Question Option : No Option Orientation : Vertical

Correct Marks : 1 Wrong Marks : 0.25

तीजनबाई निम्नलिखित में से किस लोक संगीत से जुड़ी हैं?

Options :

- ✘ भैताली
- ✔ पंडवानी
- ✘ लावणी
- ✘ बिहूगीत

Question Number : 43 Question Id : 99836718953 Question Type : MCQ Option Shuffling : Yes Display Question Number : Yes
Single Line Question Option : No Option Orientation : Vertical

Correct Marks : 1 Wrong Marks : 0.25

Akbar built the Buland Darwaza to commemorate his victory over

Options :

1. ✘ Assam
2. ✘ West Bengal
3. ✘ Kerala
4. ✔ Gujarat

Question Number : 43 Question Id : 99836718953 Question Type : MCQ Option Shuffling : Yes Display Question Number : Yes
Single Line Question Option : No Option Orientation : Vertical

Correct Marks : 1 Wrong Marks : 0.25

अकबर ने पर अपनी विजय के उपलक्ष्य में बुलंद दरवाजा का निर्माण किया था।

Options :

1. ✘ असम
2. ✘ पश्चिम बंगाल
3. ✘ केरल
4. ✔ गुजरात

Question Number : 44 Question Id : 99836718954 Question Type : MCQ Option Shuffling : Yes Display Question Number : Yes
Single Line Question Option : No Option Orientation : Vertical

Correct Marks : 1 Wrong Marks : 0.25

Which among the following festivals is celebrated as Tibetan New Year?

Options :

1. ✘ Hornbill
2. ✘ Onam
3. ✘ Nowruz
4. ✔ Losar

Question Number : 44 Question Id : 99836718954 Question Type : MCQ Option Shuffling : Yes Display Question Number : Yes
Single Line Question Option : No Option Orientation : Vertical

Correct Marks : 1 Wrong Marks : 0.25

निम्नलिखित में से किस त्यौहार को तिब्बती नव वर्ष के रूप में मनाया जाता है?

Options :

1. ✘ हॉर्नबिल
2. ✘ ओणम
3. ✘ नवरोज़
4. ✔ लोसर

Question Number : 45 Question Id : 99836718955 Question Type : MCQ Option Shuffling : Yes Display Question Number : Yes
Single Line Question Option : No Option Orientation : Vertical

Correct Marks : 1 Wrong Marks : 0.25

Till 2000, the budget was presented at 5pm on the last working day of

Options :

1. ✘ January
2. ✔ February
3. ✘ March
4. ✘ April

Question Number : 45 Question Id : 99836718955 Question Type : MCQ Option Shuffling : Yes Display Question Number : Yes
Single Line Question Option : No Option Orientation : Vertical

Correct Marks : 1 Wrong Marks : 0.25

2000 तक, बजट _____ के अंतिम कार्य दिवस को 5 अपराह्न प्रस्तुत किया जाता था।

Options :

1. ✘ जनवरी
2. ✔ फरवरी
3. ✘ मार्च
4. ✘ अप्रैल

Question Number : 46 Question Id : 99836718956 Question Type : MCQ Option Shuffling : Yes Display Question Number : Yes
Single Line Question Option : No Option Orientation : Vertical

Correct Marks : 1 Wrong Marks : 0.25

CBDT stands for _____.

Options :

1. ✘ Central Bureau of Direct Taxation
2. ✔ Central Board of Direct Tax
3. ✘ Central Board of District Taxes
4. ✘ Commission Board of Direct Tax

Question Number : 46 Question Id : 99836718956 Question Type : MCQ Option Shuffling : Yes Display Question Number : Yes
Single Line Question Option : No Option Orientation : Vertical

Correct Marks : 1 Wrong Marks : 0.25

CBDT का पूर्ण रूप _____ है।

Options :

1. ✘ सेंट्रल ब्यूरो ऑफ़ डायरेक्ट टैक्सेशन (Central Bureau of Direct Taxation)
2. ✔ सेंट्रल बोर्ड ऑफ़ डायरेक्ट टैक्स (Central Board of Direct Tax)
3. ✘ सेंट्रल बोर्ड ऑफ़ डिस्ट्रिक्ट टैक्स (Central Board of District Taxes)
4. ✘ कमिशन बोर्ड ऑफ़ डायरेक्ट टैक्स (Commission Board of Direct Tax)

Question Number : 47 Question Id : 99836718957 Question Type : MCQ Option Shuffling : Yes Display Question Number : Yes
Single Line Question Option : No Option Orientation : Vertical

Correct Marks : 1 Wrong Marks : 0.25

_____ is known as a banker's bank.

Options :

1. ✘ Regional Rural Bank
2. ✘ Commercial Bank
3. ✔ Central Bank
4. ✘ Public Bank

Question Number : 47 Question Id : 99836718957 Question Type : MCQ Option Shuffling : Yes Display Question Number : Yes
Single Line Question Option : No Option Orientation : Vertical

Correct Marks : 1 Wrong Marks : 0.25

_____ को एक बैंकर के बैंक के नाम से जाना जाता है।

Options :

1. ✘ क्षेत्रीय ग्रामीण बैंक
2. ✘ वाणिज्यिक बैंक
3. ✔ केंद्रीय बैंक

4. ✖ सार्वजनिक बैंक

Question Number : 48 Question Id : 99836718958 Question Type : MCQ Option Shuffling : Yes Display Question Number : Yes
Single Line Question Option : No Option Orientation : Vertical

Correct Marks : 1 Wrong Marks : 0.25

Which among the following is an example of first class lever?

Options :

1. ✔ See-saw
2. ✖ Nutcrackers
3. ✖ Wheelbarrow
4. ✖ Broom

Question Number : 48 Question Id : 99836718958 Question Type : MCQ Option Shuffling : Yes Display Question Number : Yes
Single Line Question Option : No Option Orientation : Vertical

Correct Marks : 1 Wrong Marks : 0.25

निम्नलिखित में से कौन सा प्रथम श्रेणी के उत्तोलक का उदाहरण है?

Options :

1. ✔ सी-सॉ
2. ✖ सरौता
3. ✖ ठेला
4. ✖ झाड़ू

Question Number : 49 Question Id : 99836718959 Question Type : MCQ Option Shuffling : Yes Display Question Number : Yes
Single Line Question Option : No Option Orientation : Vertical

Correct Marks : 1 Wrong Marks : 0.25

The chemical name of Blue vitriol is _____.

Options :

1. ✖ Sodium tetraborate
2. ✖ Sodium bicarbonate
3. ✔ Copper sulphate
4. ✖ Sulphuric acid

Question Number : 49 Question Id : 99836718959 Question Type : MCQ Option Shuffling : Yes Display Question Number : Yes
Single Line Question Option : No Option Orientation : Vertical

Correct Marks : 1 Wrong Marks : 0.25

नीला थोथा का रासायनिक नाम _____ है।

Options :

1. ✖ सोडियम टेट्राबोरेट
2. ✖ सोडियम बाईकार्बोनेट
3. ✔ कॉपर सल्फेट
4. ✖ गन्धकामल

Question Number : 50 Question Id : 99836718960 Question Type : MCQ Option Shuffling : Yes Display Question Number : Yes
Single Line Question Option : No Option Orientation : Vertical

Correct Marks : 1 Wrong Marks : 0.25

Animals which have the body cavity lined by the mesoderm are called _____.

Options :

1. ✖ Platyhelminthes
2. ✖ Acoelomates

3. ✘ Pseudocoelomates
4. ✔ Coelomates

Question Number : 50 Question Id : 99836718960 Question Type : MCQ Option Shuffling : Yes Display Question Number : Yes
Single Line Question Option : No Option Orientation : Vertical

Correct Marks : 1 Wrong Marks : 0.25

जिन जानवरों के शरीर की गुहा मेसोडर्म द्वारा आस्तरित होती हैं, उन्हें _____ कहा जाता है।

Options :

1. ✘ प्लैटीहेल्मिन्थेस
2. ✘ सीलोमेट्स
3. ✘ सूडोकेलोमेट्स
4. ✔ केलोमेट्स

Question Number : 51 Question Id : 99836718961 Question Type : MCQ Option Shuffling : Yes Display Question Number : Yes
Single Line Question Option : No Option Orientation : Vertical

Correct Marks : 1 Wrong Marks : 0.25

Solanum melongena is the scientific name of _____.

Options :

1. ✘ Capsicum
2. ✘ Radish
3. ✔ Brinjal
4. ✘ Guava

Question Number : 51 Question Id : 99836718961 Question Type : MCQ Option Shuffling : Yes Display Question Number : Yes
Single Line Question Option : No Option Orientation : Vertical

Correct Marks : 1 Wrong Marks : 0.25

सोलनम मेलोंगेना _____ का वैज्ञानिक नाम है।

Options :

1. ✘ शिमला मिर्च
2. ✘ मूली
3. ✔ बैंगन
4. ✘ अमरूद

Question Number : 52 Question Id : 99836718962 Question Type : MCQ Option Shuffling : Yes Display Question Number : Yes
Single Line Question Option : No Option Orientation : Vertical

Correct Marks : 1 Wrong Marks : 0.25

The plant from which biodiesel is produced is _____.

Options :

1. ✘ Indigo
2. ✘ Eucalyptus
3. ✔ Jatropha
4. ✘ Cinchona

Question Number : 52 Question Id : 99836718962 Question Type : MCQ Option Shuffling : Yes Display Question Number : Yes
Single Line Question Option : No Option Orientation : Vertical

Correct Marks : 1 Wrong Marks : 0.25

जिस वनस्पति से बायोडीजल का उत्पादन होता है, वह _____ है।

Options :

1. ✘ इंडिगो

2. ✘ नीलगिरी
3. ✔ जत्रोफा
4. ✘ सिनकोना

Question Number : 53 Question Id : 99836718963 Question Type : MCQ Option Shuffling : Yes Display Question Number : Yes
Single Line Question Option : No Option Orientation : Vertical

Correct Marks : 1 Wrong Marks : 0.25

With effect from April 1 _____, the Government of India restructured the Comprehensive Rural Sanitation Programme and launched the Total Sanitation Campaign (TSC).

Options :

1. ✘ 2001
2. ✔ 1999
3. ✘ 1982
4. ✘ 2005

Question Number : 53 Question Id : 99836718963 Question Type : MCQ Option Shuffling : Yes Display Question Number : Yes
Single Line Question Option : No Option Orientation : Vertical

Correct Marks : 1 Wrong Marks : 0.25

1 अप्रैल _____ से प्रभावी, भारत सरकार ने व्यापक ग्रामीण स्वच्छता कार्यक्रम का पुनर्गठन किया और कुल स्वच्छता अभियान (TSC) शुरू किया।

Options :

1. ✘ 2001
2. ✔ 1999
3. ✘ 1982
4. ✘ 2005

Question Number : 54 Question Id : 99836718964 Question Type : MCQ Option Shuffling : Yes Display Question Number : Yes
Single Line Question Option : No Option Orientation : Vertical

Correct Marks : 1 Wrong Marks : 0.25

Which among the following is not a bacterial infectious disease?

Options :

1. ✘ cholera
2. ✔ chickenpox
3. ✘ cough
4. ✘ plague

Question Number : 54 Question Id : 99836718964 Question Type : MCQ Option Shuffling : Yes Display Question Number : Yes
Single Line Question Option : No Option Orientation : Vertical

Correct Marks : 1 Wrong Marks : 0.25

निम्नलिखित में से कौन सा जीवाणु संक्रामक रोग नहीं है?

Options :

1. ✘ हैजा
2. ✔ छोटी माता
3. ✘ खांसी
4. ✘ प्लेग

Question Number : 55 Question Id : 99836718965 Question Type : MCQ Option Shuffling : Yes Display Question Number : Yes
Single Line Question Option : No Option Orientation : Vertical

Correct Marks : 1 Wrong Marks : 0.25

Above the troposphere lies the _____ where jet airplanes fly.

Options :

- ✘ thermosphere
- ✘ mesosphere
- ✔ stratosphere
- ✘ exosphere

Question Number : 55 Question Id : 99836718965 Question Type : MCQ Option Shuffling : Yes Display Question Number : Yes
Single Line Question Option : No Option Orientation : Vertical

Correct Marks : 1 Wrong Marks : 0.25

क्षोभमंडल के ऊपर _____ स्थित है जहाँ जेट विमान उड़ान भरते हैं।

Options :

- ✘ तापमंडल
- ✘ मध्यमंडल
- ✔ समतापमंडल
- ✘ बाह्यमंडल

Question Number : 56 Question Id : 99836718966 Question Type : MCQ Option Shuffling : Yes Display Question Number : Yes
Single Line Question Option : No Option Orientation : Vertical

Correct Marks : 1 Wrong Marks : 0.25

The delta of Godavari along with the delta of _____ is called 'Rice Granary of India'.

Options :

- ✘ Indus
- ✔ Krishna
- ✘ Tapti
- ✘ Mahanadi

Question Number : 56 Question Id : 99836718966 Question Type : MCQ Option Shuffling : Yes Display Question Number : Yes
Single Line Question Option : No Option Orientation : Vertical

Correct Marks : 1 Wrong Marks : 0.25

गोदावरी के डेल्टा के साथ-साथ _____ के डेल्टा को 'राईस ग्रैनरी ऑफ़ इंडिया' कहा जाता है।

Options :

- ✘ सिंधु
- ✔ कृष्णा
- ✘ ताप्ती
- ✘ महानदी

Question Number : 57 Question Id : 99836718967 Question Type : MCQ Option Shuffling : Yes Display Question Number : Yes
Single Line Question Option : No Option Orientation : Vertical

Correct Marks : 1 Wrong Marks : 0.25

Apennine is the mountain range of _____.

Options :

- ✔ Italy
- ✘ Russia
- ✘ United States of America
- ✘ Canada

Question Number : 57 Question Id : 99836718967 Question Type : MCQ Option Shuffling : Yes Display Question Number : Yes
Single Line Question Option : No Option Orientation : Vertical

Correct Marks : 1 Wrong Marks : 0.25

अपेनिन _____ की पर्वत श्रृंखला है

Options :

1. ✓ इटली
2. ✗ रूस
3. ✗ संयुक्त राज्य अमरीका
4. ✗ कनाडा

Question Number : 58 Question Id : 99836718968 Question Type : MCQ Option Shuffling : Yes Display Question Number : Yes
Single Line Question Option : No Option Orientation : Vertical

Correct Marks : 1 Wrong Marks : 0.25

_____ soil develops on old crystalline rocks.

Options :

1. ✗ Black
2. ✓ Red
3. ✗ Laterite
4. ✗ Alluvial

Question Number : 58 Question Id : 99836718968 Question Type : MCQ Option Shuffling : Yes Display Question Number : Yes
Single Line Question Option : No Option Orientation : Vertical

Correct Marks : 1 Wrong Marks : 0.25

_____ मृदा पुरानी क्रिस्टलीय चट्टानों पर विकसित होती है

Options :

1. ✗ काली
2. ✓ लाल
3. ✗ लैटेराइट
4. ✗ एल्यूवियल

Question Number : 59 Question Id : 99836718969 Question Type : MCQ Option Shuffling : Yes Display Question Number : Yes
Single Line Question Option : No Option Orientation : Vertical

Correct Marks : 1 Wrong Marks : 0.25

The _____ Ocean is surrounded by the Pacific Ring of Fire, a large number of active volcanoes.

Options :

1. ✗ Atlantic
2. ✓ Pacific
3. ✗ Arctic
4. ✗ Indian

Question Number : 59 Question Id : 99836718969 Question Type : MCQ Option Shuffling : Yes Display Question Number : Yes
Single Line Question Option : No Option Orientation : Vertical

Correct Marks : 1 Wrong Marks : 0.25

_____ महासागर प्रशांत अग्नि वृत्त से घिरा हुआ है, जो बड़ी संख्या में सक्रिय ज्वालामुखी है

Options :

1. ✗ अटलांटिक
2. ✓ प्रशांत
3. ✗ उत्तरध्रुवीय
4. ✗ हिंद

Question Number : 60 Question Id : 99836718970 Question Type : MCQ Option Shuffling : Yes Display Question Number : Yes
Single Line Question Option : No Option Orientation : Vertical

Correct Marks : 1 Wrong Marks : 0.25

The largest city of Myanmar is

Options :

1. ✓ Yangon
2. ✗ Naypyidaw
3. ✗ Dhaka
4. ✗ Kabul

Question Number : 60 Question Id : 99836718970 Question Type : MCQ Option Shuffling : Yes Display Question Number : Yes
Single Line Question Option : No Option Orientation : Vertical

Correct Marks : 1 Wrong Marks : 0.25

म्यांमार का सबसे बड़ा शहर है

Options :

1. ✓ यांगून
2. ✗ नेपीडॉ
3. ✗ ढाका
4. ✗ काबुल

General Awareness2

Group Number :	4
Group Id :	998367683
Group Maximum Duration :	0
Group Minimum Duration :	0
Revisit allowed for view? :	No
Revisit allowed for edit? :	No
Break time:	0
Group Marks:	20
Revisit allowed for group Instructions? :	Yes
Maximum Instruction Time:	0
Minimum Instruction Time:	0

General Awareness2

Section Id :	998367804
Section Number :	1
Section type :	Online
Mandatory or Optional:	Mandatory
Number of Questions:	20
Number of Questions to be attempted:	20
Section Marks:	20
Display Number Panel:	Yes
Group All Questions:	No

Sub-Section Number:	1
Sub-Section Id:	9983671022
Question Shuffling Allowed :	Yes

Question Number : 61 Question Id : 99836718971 Question Type : MCQ Option Shuffling : Yes Display Question Number : Yes
Single Line Question Option : No Option Orientation : Vertical

Correct Marks : 1 Wrong Marks : 0.25

Which among the following crops requires water-logging for its cultivation?

Options :

1. ✘ Pulses
2. ✔ Rice
3. ✘ Maize
4. ✘ Wheat

Question Number : 61 Question Id : 99836718971 Question Type : MCQ Option Shuffling : Yes Display Question Number : Yes
Single Line Question Option : No Option Orientation : Vertical

Correct Marks : 1 Wrong Marks : 0.25

निम्नलिखित में से किस फसल को इसकी खेती के लिए जल-भराव की आवश्यकता होती है?

Options :

1. ✘ दलहन
2. ✔ चावल
3. ✘ मक्का
4. ✘ गेहूँ

Question Number : 62 Question Id : 99836718972 Question Type : MCQ Option Shuffling : Yes Display Question Number : Yes
Single Line Question Option : No Option Orientation : Vertical

Correct Marks : 1 Wrong Marks : 0.25

Who was the President of the Tripuri session of Congress in 1939?

Options :

1. ✘ Lala Lajpat Rai
2. ✔ Subhash Chandra Bose
3. ✘ Jawaharlal Nehru
4. ✘ Mahatma Gandhi

Question Number : 62 Question Id : 99836718972 Question Type : MCQ Option Shuffling : Yes Display Question Number : Yes
Single Line Question Option : No Option Orientation : Vertical

Correct Marks : 1 Wrong Marks : 0.25

1939 में कांग्रेस के त्रिपुरी सत्र के अध्यक्ष कौन थे?

Options :

1. ✘ लाला लाजपत राय
2. ✔ सुभाष चंद्र बोस
3. ✘ जवाहरलाल नेहरू
4. ✘ महात्मा गांधी

Question Number : 63 Question Id : 99836718973 Question Type : MCQ Option Shuffling : Yes Display Question Number : Yes
Single Line Question Option : No Option Orientation : Vertical

Correct Marks : 1 Wrong Marks : 0.25

Who helped Akbar to put an end to Hemus' constant dictatorship?

Options :

1. ✘ Humayun
2. ✔ Bairam Khan
3. ✘ Sikandar
4. ✘ Babur

Question Number : 63 Question Id : 99836718973 Question Type : MCQ Option Shuffling : Yes Display Question Number : Yes
Single Line Question Option : No Option Orientation : Vertical

Correct Marks : 1 Wrong Marks : 0.25

हेमू की निरंतर तानाशाही को समाप्त करने के लिए अकबर की किसने मदद की?

Options :

1. ✘ हुमायूँ
2. ✔ बैरम खान
3. ✘ सिकंदर
4. ✘ बाबर

Question Number : 64 Question Id : 99836718974 Question Type : MCQ Option Shuffling : Yes Display Question Number : Yes
Single Line Question Option : No Option Orientation : Vertical

Correct Marks : 1 Wrong Marks : 0.25

Who is regarded as the Father of Modern India?

Options :

1. ✔ Ram Mohan Roy
2. ✘ Keshub Chandra Sen
3. ✘ Debendranath Tagore
4. ✘ Jawaharlal Nehru

Question Number : 64 Question Id : 99836718974 Question Type : MCQ Option Shuffling : Yes Display Question Number : Yes
Single Line Question Option : No Option Orientation : Vertical

Correct Marks : 1 Wrong Marks : 0.25

आधुनिक भारत के पिता के रूप में किसे माना जाता है?

Options :

1. ✔ राम मोहन राय
2. ✘ केशवचन्द्र सेन
3. ✘ देवेन्द्रनाथ टैगोर
4. ✘ जवाहरलाल नेहरू

Question Number : 65 Question Id : 99836718975 Question Type : MCQ Option Shuffling : Yes Display Question Number : Yes
Single Line Question Option : No Option Orientation : Vertical

Correct Marks : 1 Wrong Marks : 0.25

The greatest achievement of Brahma Samaj in the field of social reform was the abolition of Sati in _____.

Options :

1. ✔ 1829
2. ✘ 1850
3. ✘ 1806
4. ✘ 1835

Question Number : 65 Question Id : 99836718975 Question Type : MCQ Option Shuffling : Yes Display Question Number : Yes
Single Line Question Option : No Option Orientation : Vertical

Correct Marks : 1 Wrong Marks : 0.25

सामाजिक सुधार के क्षेत्र में ब्रह्म समाज की सबसे बड़ी उपलब्धि _____ में सती का उन्मूलन था।

Options :

1. ✔ 1829
2. ✘ 1850
3. ✘ 1806

4. ✖ 1835

Question Number : 66 Question Id : 99836718976 Question Type : MCQ Option Shuffling : Yes Display Question Number : Yes
Single Line Question Option : No Option Orientation : Vertical

Correct Marks : 1 Wrong Marks : 0.25

_____ built Solesvara temple at Pudukkottai.

Options :

1. ✖ Parantaka Chola
2. ✔ Vijayalaya Chola
3. ✖ Rajaraja Chola
4. ✖ Aditya Chola

Question Number : 66 Question Id : 99836718976 Question Type : MCQ Option Shuffling : Yes Display Question Number : Yes
Single Line Question Option : No Option Orientation : Vertical

Correct Marks : 1 Wrong Marks : 0.25

_____ ने पुदुकोट्टई में सोलेश्वरा मंदिर का निर्माण किया।

Options :

1. ✖ परंतक चोल
2. ✔ विजयालय चोल
3. ✖ राजाराज चोल
4. ✖ आदित्य चोल

Question Number : 67 Question Id : 99836718977 Question Type : MCQ Option Shuffling : Yes Display Question Number : Yes
Single Line Question Option : No Option Orientation : Vertical

Correct Marks : 1 Wrong Marks : 0.25

_____ conquered the whole of Sri Lanka and held its king captive for 12 years.

Options :

1. ✖ Rajadhiraja Chola
2. ✔ Rajendra Chola I
3. ✖ Rajaraja Chola
4. ✖ Aditya Chola

Question Number : 67 Question Id : 99836718977 Question Type : MCQ Option Shuffling : Yes Display Question Number : Yes
Single Line Question Option : No Option Orientation : Vertical

Correct Marks : 1 Wrong Marks : 0.25

_____ ने पूरे श्रीलंका पर विजय प्राप्त की और उसके राजा को 12 वर्षों तक बंदी बनाकर रखा।

Options :

1. ✖ राजाधिराज चोल
2. ✔ राजेंद्र चोल I
3. ✖ राजाराज चोल
4. ✖ आदित्य चोल

Question Number : 68 Question Id : 99836718978 Question Type : MCQ Option Shuffling : Yes Display Question Number : Yes
Single Line Question Option : No Option Orientation : Vertical

Correct Marks : 1 Wrong Marks : 0.25

Satyanarayana Raju is the real name of _____.

Options :

1. ✖ Munshi Premchand
2. ✖ Swami Agnivesh

3. ✘ Baba Amte
4. ✔ Satya Sai Baba

Question Number : 68 Question Id : 99836718978 Question Type : MCQ Option Shuffling : Yes Display Question Number : Yes
Single Line Question Option : No Option Orientation : Vertical

Correct Marks : 1 Wrong Marks : 0.25

----- का वास्तविक नाम सत्यनारायण राजू है।

Options :

1. ✘ मुंशी प्रेमचंद
2. ✘ स्वामी अग्निवेश
3. ✘ बाबा आमटे
4. ✔ सत्य साई बाबा

Question Number : 69 Question Id : 99836718979 Question Type : MCQ Option Shuffling : Yes Display Question Number : Yes
Single Line Question Option : No Option Orientation : Vertical

Correct Marks : 1 Wrong Marks : 0.25

Bidhan Chandra Roy Award was instituted in 1976 in memory of B. C. Roy by ----- .

Options :

1. ✔ Medical Council of India
2. ✘ Bar Council of India
3. ✘ Sports Committee of India
4. ✘ Institute of Chartered Accountants

Question Number : 69 Question Id : 99836718979 Question Type : MCQ Option Shuffling : Yes Display Question Number : Yes
Single Line Question Option : No Option Orientation : Vertical

Correct Marks : 1 Wrong Marks : 0.25

बिधान चंद्र रॉय पुरस्कार की स्थापना 1976 में ----- द्वारा बी. सी. रॉय की याद में की गयी थी।

Options :

1. ✔ भारतीय चिकित्सा परिषद्
2. ✘ भारतीय विधिज्ञ परिषद्
3. ✘ भारतीय खेल समिति
4. ✘ सनदी लेखाकार संस्थान

Question Number : 70 Question Id : 99836718980 Question Type : MCQ Option Shuffling : Yes Display Question Number : Yes
Single Line Question Option : No Option Orientation : Vertical

Correct Marks : 1 Wrong Marks : 0.25

And Then One Day' is written by -----.

Options :

1. ✘ Sudha Murthy
2. ✘ Arundhati Roy
3. ✘ Shashi Tharoor
4. ✔ Naseeruddin Shah

Question Number : 70 Question Id : 99836718980 Question Type : MCQ Option Shuffling : Yes Display Question Number : Yes
Single Line Question Option : No Option Orientation : Vertical

Correct Marks : 1 Wrong Marks : 0.25

एंड देन वन डे' ----- द्वारा लिखी गई है।

Options :

1. ✘ सुधा मूर्ति

2. ✘ अरुंधति रॉय
3. ✘ शशि थरूर
4. ✔ नसीरुद्दीन शाह

Question Number : 71 Question Id : 99836718981 Question Type : MCQ Option Shuffling : Yes Display Question Number : Yes
Single Line Question Option : No Option Orientation : Vertical

Correct Marks : 1 Wrong Marks : 0.25

The headquarters of BRICS Nations is located at _____.

Options :

1. ✔ Shanghai
2. ✘ Geneva
3. ✘ New York
4. ✘ London

Question Number : 71 Question Id : 99836718981 Question Type : MCQ Option Shuffling : Yes Display Question Number : Yes
Single Line Question Option : No Option Orientation : Vertical

Correct Marks : 1 Wrong Marks : 0.25

BRICS राष्ट्रों का मुख्यालय _____ में स्थित है।

Options :

1. ✔ शंघाई
2. ✘ जिनेवा
3. ✘ न्यूयॉर्क
4. ✘ लंदन

Question Number : 72 Question Id : 99836718982 Question Type : MCQ Option Shuffling : Yes Display Question Number : Yes
Single Line Question Option : No Option Orientation : Vertical

Correct Marks : 1 Wrong Marks : 0.25

Who is the author of 'Ramcharitmanas'?

Options :

1. ✘ Valmiki
2. ✔ Tulsidas
3. ✘ Ved Vyas
4. ✘ Premchand

Question Number : 72 Question Id : 99836718982 Question Type : MCQ Option Shuffling : Yes Display Question Number : Yes
Single Line Question Option : No Option Orientation : Vertical

Correct Marks : 1 Wrong Marks : 0.25

रामचरितमानस' के लेखक कौन हैं?

Options :

1. ✘ वाल्मीकि
2. ✔ तुलसीदास
3. ✘ वेदव्यास
4. ✘ प्रेमचंद

Question Number : 73 Question Id : 99836718983 Question Type : MCQ Option Shuffling : Yes Display Question Number : Yes
Single Line Question Option : No Option Orientation : Vertical

Correct Marks : 1 Wrong Marks : 0.25

ISRO was established _____ years after Pakistan's SUPARCO.

Options :

- ✘ Six
- ✘ ten
- ✘ five
- ✔ eight

Question Number : 73 Question Id : 99836718983 Question Type : MCQ Option Shuffling : Yes Display Question Number : Yes
Single Line Question Option : No Option Orientation : Vertical

Correct Marks : 1 Wrong Marks : 0.25

पाकिस्तान के SUPARCO के _____ वर्ष बाद इसरो स्थापित किया गया था।

Options :

- ✘ छह
- ✘ दस
- ✘ पांच
- ✔ आठ

Question Number : 74 Question Id : 99836718984 Question Type : MCQ Option Shuffling : Yes Display Question Number : Yes
Single Line Question Option : No Option Orientation : Vertical

Correct Marks : 1 Wrong Marks : 0.25

Which Part of the Constitution deals with the Amendments of the Constitution?

Options :

- ✘ IX
- ✘ X
- ✘ XV
- ✔ XX

Question Number : 74 Question Id : 99836718984 Question Type : MCQ Option Shuffling : Yes Display Question Number : Yes
Single Line Question Option : No Option Orientation : Vertical

Correct Marks : 1 Wrong Marks : 0.25

संविधान का कौन सा भाग संविधान के संशोधन से संबंधित है?

Options :

- ✘ IX
- ✘ X
- ✘ XV
- ✔ XX

Question Number : 75 Question Id : 99836718985 Question Type : MCQ Option Shuffling : Yes Display Question Number : Yes
Single Line Question Option : No Option Orientation : Vertical

Correct Marks : 1 Wrong Marks : 0.25

Which among the following amendments is related with reservation for economically weaker sections of the society?

Options :

- ✘ 100
- ✔ 103
- ✘ 96
- ✘ 86

Question Number : 75 Question Id : 99836718985 Question Type : MCQ Option Shuffling : Yes Display Question Number : Yes
Single Line Question Option : No Option Orientation : Vertical

Correct Marks : 1 Wrong Marks : 0.25

निम्नलिखित में से कौन सा संशोधन समाज के आर्थिक रूप से कमजोर वर्गों के लिए आरक्षण से संबंधित है?

Options :

1. ✘ 100
2. ✔ 103
3. ✘ 96
4. ✘ 86

Question Number : 76 Question Id : 99836718986 Question Type : MCQ Option Shuffling : Yes Display Question Number : Yes
Single Line Question Option : No Option Orientation : Vertical

Correct Marks : 1 Wrong Marks : 0.25

Article _____ gave special status to Kashmir.

Options :

1. ✘ 395
2. ✔ 370
3. ✘ 356
4. ✘ 343

Question Number : 76 Question Id : 99836718986 Question Type : MCQ Option Shuffling : Yes Display Question Number : Yes
Single Line Question Option : No Option Orientation : Vertical

Correct Marks : 1 Wrong Marks : 0.25

अनुच्छेद _____ ने कश्मीर को विशेष दर्जा दिया था।

Options :

1. ✘ 395
2. ✔ 370
3. ✘ 356
4. ✘ 343

Question Number : 77 Question Id : 99836718987 Question Type : MCQ Option Shuffling : Yes Display Question Number : Yes
Single Line Question Option : No Option Orientation : Vertical

Correct Marks : 1 Wrong Marks : 0.25

What is the minimum age for election as a member of a Panchayat?

Options :

1. ✘ 32 years
2. ✘ 24 years
3. ✘ 18 years
4. ✔ 21 years

Question Number : 77 Question Id : 99836718987 Question Type : MCQ Option Shuffling : Yes Display Question Number : Yes
Single Line Question Option : No Option Orientation : Vertical

Correct Marks : 1 Wrong Marks : 0.25

पंचायत के सदस्य के रूप में चुनाव के लिए न्यूनतम आयु क्या है?

Options :

1. ✘ 32 वर्ष
2. ✘ 24 वर्ष
3. ✘ 18 वर्ष
4. ✔ 21 वर्ष

Question Number : 78 Question Id : 99836718988 Question Type : MCQ Option Shuffling : Yes Display Question Number : Yes
Single Line Question Option : No Option Orientation : Vertical

Correct Marks : 1 Wrong Marks : 0.25

India finished the ISSF tournament on top of the table with _____ medals.

Options :

1. ✘ 12
2. ✘ 16
3. ✘ 18
4. ✔ 24

Question Number : 78 Question Id : 99836718988 Question Type : MCQ Option Shuffling : Yes Display Question Number : Yes
Single Line Question Option : No Option Orientation : Vertical

Correct Marks : 1 Wrong Marks : 0.25

भारत ने _____ पदक के साथ टेबल में उच्च स्थान पर ISSF टूर्नामेंट पूर्ण किया

Options :

1. ✘ 12
2. ✘ 16
3. ✘ 18
4. ✔ 24

Question Number : 79 Question Id : 99836718989 Question Type : MCQ Option Shuffling : Yes Display Question Number : Yes
Single Line Question Option : No Option Orientation : Vertical

Correct Marks : 1 Wrong Marks : 0.25

_____ has won the 2nd edition of the Intercontinental Cup football tournament.

Options :

1. ✘ India
2. ✔ North Korea
3. ✘ Syria
4. ✘ Tajikistan

Question Number : 79 Question Id : 99836718989 Question Type : MCQ Option Shuffling : Yes Display Question Number : Yes
Single Line Question Option : No Option Orientation : Vertical

Correct Marks : 1 Wrong Marks : 0.25

_____ ने इंटरकांटीनेंटल कप फुटबॉल टूर्नामेंट के दूसरे संस्करण को जीता है।

Options :

1. ✘ भारत
2. ✔ उत्तर कोरिया
3. ✘ सीरिया
4. ✘ ताजिकिस्तान

Question Number : 80 Question Id : 99836718990 Question Type : MCQ Option Shuffling : Yes Display Question Number : Yes
Single Line Question Option : No Option Orientation : Vertical

Correct Marks : 1 Wrong Marks : 0.25

Which among the following countries did not participate in the 2nd edition of the Intercontinental Cup football tournament?

Options :

1. ✘ India
2. ✘ Syria
3. ✘ North Korea
4. ✔ China

Question Number : 80 Question Id : 99836718990 Question Type : MCQ Option Shuffling : Yes Display Question Number : Yes
Single Line Question Option : No Option Orientation : Vertical

Correct Marks : 1 Wrong Marks : 0.25

निम्नलिखित देशों में से किसने इंटरकांटीनेंटल कप फुटबॉल टूर्नामेंट के दूसरे संस्करण में भाग नहीं लिया?

Options :

1. ✘ भारत
2. ✘ सीरिया
3. ✘ उत्तर कोरिया
4. ✔ चीन

Arithmetic Ability1

Group Number :	5
Group Id :	998367684
Group Maximum Duration :	0
Group Minimum Duration :	0
Revisit allowed for view? :	No
Revisit allowed for edit? :	No
Break time:	0
Group Marks:	20
Revisit allowed for group Instructions? :	Yes
Maximum Instruction Time:	0
Minimum Instruction Time:	0

Arithmetic Ability1

Section Id :	998367805
Section Number :	1
Section type :	Online
Mandatory or Optional:	Mandatory
Number of Questions:	20
Number of Questions to be attempted:	20
Section Marks:	20
Display Number Panel:	Yes
Group All Questions:	No

Sub-Section Number:	1
Sub-Section Id:	9983671023
Question Shuffling Allowed :	Yes

Question Number : 81 Question Id : 99836718991 Question Type : MCQ Option Shuffling : Yes Display Question Number : Yes
Single Line Question Option : No Option Orientation : Vertical

Correct Marks : 1 Wrong Marks : 0.25

Find the LCM of 128, 148, and 168.

Options :

1. ✔ 99456
2. ✘ 98452
3. ✘ 99310

4. ✖ 98450

Question Number : 81 Question Id : 99836718991 Question Type : MCQ Option Shuffling : Yes Display Question Number : Yes
Single Line Question Option : No Option Orientation : Vertical

Correct Marks : 1 Wrong Marks : 0.25

128, 148, और 168 का लघुतम समापवर्तक ज्ञात करें

Options :

1. ✔ 99456

2. ✖ 98452

3. ✖ 99310

4. ✖ 98450

Question Number : 82 Question Id : 99836718992 Question Type : MCQ Option Shuffling : Yes Display Question Number : Yes
Single Line Question Option : No Option Orientation : Vertical

Correct Marks : 1 Wrong Marks : 0.25

The flooring of a hall 10 ft. long and 4 ft. wide is to be done with 2 ft. by 2 ft. square tiles, how many tiles will be required?

Options :

1. ✖ 15

2. ✖ 8

3. ✔ 10

4. ✖ 12

Question Number : 82 Question Id : 99836718992 Question Type : MCQ Option Shuffling : Yes Display Question Number : Yes
Single Line Question Option : No Option Orientation : Vertical

Correct Marks : 1 Wrong Marks : 0.25

एक हॉल की फर्श 10 फीट लंबी और 4 फीट चौड़ी है जिसे 2 फीट बाय 2 फीट के वर्गाकार टाइल्स से बनाया जाएगा, कितने टाइल्स की आवश्यकता होगी?

Options :

1. ✖ 15

2. ✖ 8

3. ✔ 10

4. ✖ 12

Question Number : 83 Question Id : 99836718993 Question Type : MCQ Option Shuffling : Yes Display Question Number : Yes
Single Line Question Option : No Option Orientation : Vertical

Correct Marks : 1 Wrong Marks : 0.25

Solve the following: $9 \times 4 \div 3 + 6 - 3 \times 3 \div 9 + 4 - 8 \div 2 = ?$

Options :

1. ✖ 18

2. ✔ 17

3. ✖ 16

4. ✖ 15

Question Number : 83 Question Id : 99836718993 Question Type : MCQ Option Shuffling : Yes Display Question Number : Yes
Single Line Question Option : No Option Orientation : Vertical

Correct Marks : 1 Wrong Marks : 0.25

निम्नलिखित को सुलझाएं: $9 \times 4 \div 3 + 6 - 3 \times 3 \div 9 + 4 - 8 \div 2 = ?$

Options :

1. ✘ 18
2. ✔ 17
3. ✘ 16
4. ✘ 15

Question Number : 84 Question Id : 99836718994 Question Type : MCQ Option Shuffling : Yes Display Question Number : Yes
Single Line Question Option : No Option Orientation : Vertical

Correct Marks : 1 Wrong Marks : 0.25

Solve the following: $2.375 \div 0.625 + 3 - (1 \div 6) \text{ of } 24 = ?$

Options :

1. ✘ 2.5
2. ✔ 2.8
3. ✘ 3
4. ✘ 3.2

Question Number : 84 Question Id : 99836718994 Question Type : MCQ Option Shuffling : Yes Display Question Number : Yes
Single Line Question Option : No Option Orientation : Vertical

Correct Marks : 1 Wrong Marks : 0.25

निम्नलिखित को सुलझाएं: $2.375 \div 0.625 + 3 - (1 \div 6) \text{ of } 24 = ?$

Options :

1. ✘ 2.5
2. ✔ 2.8
3. ✘ 3
4. ✘ 3.2

Question Number : 85 Question Id : 99836718995 Question Type : MCQ Option Shuffling : Yes Display Question Number : Yes
Single Line Question Option : No Option Orientation : Vertical

Correct Marks : 1 Wrong Marks : 0.25

If $(y - 121) \div (y - 21) = y$, find $y = ?$

Options :

1. ✘ 22
2. ✘ 16.5
3. ✔ 11
4. ✘ 5.5

Question Number : 85 Question Id : 99836718995 Question Type : MCQ Option Shuffling : Yes Display Question Number : Yes
Single Line Question Option : No Option Orientation : Vertical

Correct Marks : 1 Wrong Marks : 0.25

यदि $(y - 121) \div (y - 21) = y$, तो y ज्ञात करें:

Options :

1. ✘ 22
2. ✘ 16.5
3. ✔ 11
4. ✘ 5.5

Question Number : 86 Question Id : 99836718996 Question Type : MCQ Option Shuffling : Yes Display Question Number : Yes
Single Line Question Option : No Option Orientation : Vertical

Correct Marks : 1 Wrong Marks : 0.25

Solve the following: $(675 \div 5 \div 3) + (240 \div 6 \div 2) = ?$

Options :

1. ✓ 65
2. ✗ 60
3. ✗ 55
4. ✗ 50

Question Number : 86 Question Id : 99836718996 Question Type : MCQ Option Shuffling : Yes Display Question Number : Yes
Single Line Question Option : No Option Orientation : Vertical

Correct Marks : 1 Wrong Marks : 0.25

निम्नलिखित को सुलझाएं: $(675 \div 5 \div 3) + (240 \div 6 \div 2) = ?$

Options :

1. ✓ 65
2. ✗ 60
3. ✗ 55
4. ✗ 50

Question Number : 87 Question Id : 99836718997 Question Type : MCQ Option Shuffling : Yes Display Question Number : Yes
Single Line Question Option : No Option Orientation : Vertical

Correct Marks : 1 Wrong Marks : 0.25

If $122 \times 3 - 31 \times 12 + y \times 4 = 58$, find $y = ?$

Options :

1. ✗ 8
2. ✗ 12
3. ✗ 14
4. ✓ 16

Question Number : 87 Question Id : 99836718997 Question Type : MCQ Option Shuffling : Yes Display Question Number : Yes
Single Line Question Option : No Option Orientation : Vertical

Correct Marks : 1 Wrong Marks : 0.25

यदि $122 \times 3 - 31 \times 12 + y \times 4 = 58$, तो y ज्ञात करें:

Options :

1. ✗ 8
2. ✗ 12
3. ✗ 14
4. ✓ 16

Question Number : 88 Question Id : 99836718998 Question Type : MCQ Option Shuffling : Yes Display Question Number : Yes
Single Line Question Option : No Option Orientation : Vertical

Correct Marks : 1 Wrong Marks : 0.25

Solve the following: $2 \times 4 \times 36 \div 9 - 4 \times 3 = ?$

Options :

1. ✗ 0
2. ✓ 20
3. ✗ -96
4. ✗ 16

Question Number : 88 Question Id : 99836718998 Question Type : MCQ Option Shuffling : Yes Display Question Number : Yes
Single Line Question Option : No Option Orientation : Vertical

Correct Marks : 1 Wrong Marks : 0.25

निम्नलिखित को सुलझाएं: $2 \times 4 \times 36 \div 9 - 4 \times 3 = ?$

Options :

1. ✘ 0
2. ✔ 20
3. ✘ -96
4. ✘ 16

Question Number : 89 Question Id : 99836718999 Question Type : MCQ Option Shuffling : Yes Display Question Number : Yes Single Line Question Option : No Option Orientation : Vertical

Correct Marks : 1 Wrong Marks : 0.25

In an MCQ test, 4 marks are awarded for a correct answer and 1 mark is deducted for a wrong answer, if a student attempted 50 questions and scored 120 marks, how many questions did he/she solve correctly?

Options :

1. ✘ 32
2. ✔ 34
3. ✘ 36
4. ✘ 38

Question Number : 89 Question Id : 99836718999 Question Type : MCQ Option Shuffling : Yes Display Question Number : Yes Single Line Question Option : No Option Orientation : Vertical

Correct Marks : 1 Wrong Marks : 0.25

MCQ टेस्ट में, सही उत्तर के लिए 4 अंक दिए जाते हैं और गलत उत्तर के लिए 1 अंक काटे जाते हैं, यदि छात्र/छात्रा ने 50 प्रश्न हल किये, और उसे 120 अंक प्राप्त हुए, तो उसने कितने प्रश्न सही हल किये?

Options :

1. ✘ 32
2. ✔ 34
3. ✘ 36
4. ✘ 38

Question Number : 90 Question Id : 99836719000 Question Type : MCQ Option Shuffling : Yes Display Question Number : Yes Single Line Question Option : No Option Orientation : Vertical

Correct Marks : 1 Wrong Marks : 0.25

Solve the following: $[(13.5 \div 2.25) + (6 \div 0.5)] \div [(0.75 \times 4) + (6 \times 0.5)] = ?$

Options :

1. ✘ 2
2. ✘ 2.5
3. ✔ 3
4. ✘ 3.5

Question Number : 90 Question Id : 99836719000 Question Type : MCQ Option Shuffling : Yes Display Question Number : Yes Single Line Question Option : No Option Orientation : Vertical

Correct Marks : 1 Wrong Marks : 0.25

निम्नलिखित को सुलझाएं: $[(13.5 \div 2.25) + (6 \div 0.5)] \div [(0.75 \times 4) + (6 \times 0.5)] = ?$

Options :

1. ✘ 2
2. ✘ 2.5
3. ✔ 3
4. ✘ 3.5

Question Number : 91 Question Id : 99836719001 Question Type : MCQ Option Shuffling : Yes Display Question Number : Yes
Single Line Question Option : No Option Orientation : Vertical

Correct Marks : 1 Wrong Marks : 0.25

A dress priced Rs. 5000 was sold for Rs. 4500 after discount. After bargaining, the customer got another 10 percent on the billing price. Find the net discount percent.

Options :

1. ✘ 17.5 percent
2. ✘ 18 percent
3. ✔ 19 percent
4. ✘ 20 percent

Question Number : 91 Question Id : 99836719001 Question Type : MCQ Option Shuffling : Yes Display Question Number : Yes
Single Line Question Option : No Option Orientation : Vertical

Correct Marks : 1 Wrong Marks : 0.25

5000 रुपए की एक पोशाक को छूट के बाद 4500 रुपए में बेचा गया मोलभाव के बाद, ग्राहक को बिलिंग मूल्य पर और 10 प्रतिशत की छूट मिली उसे कुल कितने प्रतिशत छूट मिली?

Options :

1. ✘ 17.5 प्रतिशत
2. ✘ 18 प्रतिशत
3. ✔ 19 प्रतिशत
4. ✘ 20 प्रतिशत

Question Number : 92 Question Id : 99836719002 Question Type : MCQ Option Shuffling : Yes Display Question Number : Yes
Single Line Question Option : No Option Orientation : Vertical

Correct Marks : 1 Wrong Marks : 0.25

A man purchased gifts worth Rs. 1050 for Rs. 900. Calculate the discount percent.

Options :

1. ✘ 8.50 percent
2. ✘ 10 percent
3. ✘ 12.70 percent
4. ✔ 14.30 percent

Question Number : 92 Question Id : 99836719002 Question Type : MCQ Option Shuffling : Yes Display Question Number : Yes
Single Line Question Option : No Option Orientation : Vertical

Correct Marks : 1 Wrong Marks : 0.25

एक आदमी ने 1050 रुपए के उपहार 900 में खरीदे उसे कितने प्रतिशत छूट मिली?

Options :

1. ✘ 8.50 प्रतिशत
2. ✘ 10 प्रतिशत
3. ✘ 12.70 प्रतिशत
4. ✔ 14.30 प्रतिशत

Question Number : 93 Question Id : 99836719003 Question Type : MCQ Option Shuffling : Yes Display Question Number : Yes
Single Line Question Option : No Option Orientation : Vertical

Correct Marks : 1 Wrong Marks : 0.25

Vikram sold 5 kg rice at Rs. 50/kg and 2.5 kg dal at Rs. 80/kg, for a total of Rs. 400. Calculate the net discount percentage offered.

Options :

1. ✘ 10.89 percent

2. ✓ 11.11 percent

3. ✗ 11.76 percent

4. ✗ 12.50 percent

Question Number : 93 Question Id : 99836719003 Question Type : MCQ Option Shuffling : Yes Display Question Number : Yes
Single Line Question Option : No Option Orientation : Vertical

Correct Marks : 1 Wrong Marks : 0.25

विक्रम ने 50 रुपए/kg पर 5 kg चावल बेचे और 80 रुपए/kg पर 2.5 kg दाल बेची। उसने कुल 400 रुपए की बिक्री की। शुद्ध लूट प्रतिशत की गणना करें।

Options :

1. ✗ 10.89 प्रतिशत

2. ✓ 11.11 प्रतिशत

3. ✗ 11.76 प्रतिशत

4. ✗ 12.50 प्रतिशत

Question Number : 94 Question Id : 99836719004 Question Type : MCQ Option Shuffling : Yes Display Question Number : Yes
Single Line Question Option : No Option Orientation : Vertical

Correct Marks : 1 Wrong Marks : 0.25

The price of a car depreciated by 20 percent, 40 percent and 60 percent respectively in 3 years. What is the net depreciation (round off)?

Options :

1. ✗ 75 percent

2. ✗ 77 percent

3. ✗ 79 percent

4. ✓ 81 percent

Question Number : 94 Question Id : 99836719004 Question Type : MCQ Option Shuffling : Yes Display Question Number : Yes
Single Line Question Option : No Option Orientation : Vertical

Correct Marks : 1 Wrong Marks : 0.25

3 वर्षों में एक कार की कीमत क्रमशः 20 प्रतिशत, 40 प्रतिशत और 60 प्रतिशत घट गई। शुद्ध मूल्यहास (राउंड ऑफ) क्या है?

Options :

1. ✗ 75 प्रतिशत

2. ✗ 77 प्रतिशत

3. ✗ 79 प्रतिशत

4. ✓ 81 प्रतिशत

Question Number : 95 Question Id : 99836719005 Question Type : MCQ Option Shuffling : Yes Display Question Number : Yes
Single Line Question Option : No Option Orientation : Vertical

Correct Marks : 1 Wrong Marks : 0.25

If a student divides a number by 3 erroneously by 3 instead of dividing it by $1/3$, then what is his percentage error in calculation?

Options :

1. ✓ 88.90 percent

2. ✗ 75.00 percent

3. ✗ 66.60 percent

4. ✗ 33.40 percent

Question Number : 95 Question Id : 99836719005 Question Type : MCQ Option Shuffling : Yes Display Question Number : Yes
Single Line Question Option : No Option Orientation : Vertical

Correct Marks : 1 Wrong Marks : 0.25

यदि एक छात्र $1/3$ के बजाय एक संख्या को गलती से 3 से विभाजित करता है, तो गणना में उसकी प्रतिशत त्रुटि कितनी है?

Options :

- ✓ 88.90 प्रतिशत
- ✗ 75.00 प्रतिशत
- ✗ 66.60 प्रतिशत
- ✗ 33.40 प्रतिशत

Question Number : 96 Question Id : 99836719006 Question Type : MCQ Option Shuffling : Yes Display Question Number : Yes Single Line Question Option : No Option Orientation : Vertical

Correct Marks : 1 Wrong Marks : 0.25

A fruit basket contains 40 fruits out of which 30 percent are apples, 20 pieces are oranges and the remaining are bananas. Find the percentage of bananas in basket.

Options :

- ✗ 10 percent
- ✗ 16 percent
- ✓ 20 percent
- ✗ 24 percent

Question Number : 96 Question Id : 99836719006 Question Type : MCQ Option Shuffling : Yes Display Question Number : Yes Single Line Question Option : No Option Orientation : Vertical

Correct Marks : 1 Wrong Marks : 0.25

एक फलों की टोकरी में 40 फल होते हैं जिनमें से 30 प्रतिशत सेब, 20 नम संतरे और शेष केलों होते हैं। टोकरी में केले का प्रतिशत ज्ञात करें।

Options :

- ✗ 10 प्रतिशत
- ✗ 16 प्रतिशत
- ✓ 20 प्रतिशत
- ✗ 24 प्रतिशत

Question Number : 97 Question Id : 99836719007 Question Type : MCQ Option Shuffling : Yes Display Question Number : Yes Single Line Question Option : No Option Orientation : Vertical

Correct Marks : 1 Wrong Marks : 0.25

A newspaper is sold for Rs. 1.5 while the cost price for it is Rs. 0.5. If transport charges are 40 percent of the sale price, what is the net profit percent?

Options :

- ✗ 33.33 percent
- ✓ 36.36 percent
- ✗ 37.50 percent
- ✗ 39.23 percent

Question Number : 97 Question Id : 99836719007 Question Type : MCQ Option Shuffling : Yes Display Question Number : Yes Single Line Question Option : No Option Orientation : Vertical

Correct Marks : 1 Wrong Marks : 0.25

एक अखबार 1.5 रुपए में बेचा जाता है, जबकि उसकी लागत मूल्य 0.5 रुपए है। यदि परिवहन शुल्क बिक्री मूल्य का 40 प्रतिशत है, तो शुद्ध लाभ प्रतिशत क्या है?

Options :

- ✗ 33.33 प्रतिशत
- ✓ 36.36 प्रतिशत
- ✗ 37.50 प्रतिशत

4. ✘ 39.23 प्रतिशत

Question Number : 98 Question Id : 99836719008 Question Type : MCQ Option Shuffling : Yes Display Question Number : Yes
Single Line Question Option : No Option Orientation : Vertical

Correct Marks : 1 Wrong Marks : 0.25

A pet dog was sold at Rs. 13,800 with 15 percent profit. Find the cost price.

Options :

1. ✔ Rs. 12000

2. ✘ Rs. 15870

3. ✘ Rs. 11730

4. ✘ Rs. 12525

Question Number : 98 Question Id : 99836719008 Question Type : MCQ Option Shuffling : Yes Display Question Number : Yes
Single Line Question Option : No Option Orientation : Vertical

Correct Marks : 1 Wrong Marks : 0.25

एक पालतू कुत्ता 15 प्रतिशत लाभ पर 13,800 रुपए में बेचा गया था। लागत मूल्य ज्ञात करें।

Options :

1. ✔ 12000 रुपए

2. ✘ 15870 रुपए

3. ✘ 11730 रुपए

4. ✘ 12525 रुपए

Question Number : 99 Question Id : 99836719009 Question Type : MCQ Option Shuffling : Yes Display Question Number : Yes
Single Line Question Option : No Option Orientation : Vertical

Correct Marks : 1 Wrong Marks : 0.25

A bookshop sells one set of books at Rs. 680 at 15 percent loss and another set at Rs. 1080 at 35 percent profit. Find his net profit?

Options :

1. ✘ 7.50 percent

2. ✔ 10 percent

3. ✘ 12.50 percent

4. ✘ 15 percent

Question Number : 99 Question Id : 99836719009 Question Type : MCQ Option Shuffling : Yes Display Question Number : Yes
Single Line Question Option : No Option Orientation : Vertical

Correct Marks : 1 Wrong Marks : 0.25

एक किताब की दुकान पर पुस्तकों का एक सेट 680 रुपए में 15 प्रतिशत की हानि पर और दूसरा सेट 35 प्रतिशत लाभ पर 1080 रुपए में बेचा जाता है। शुद्ध लाभ ज्ञात करें।

Options :

1. ✘ 7.50 प्रतिशत

2. ✔ 10 प्रतिशत

3. ✘ 12.50 प्रतिशत

4. ✘ 15 प्रतिशत

Question Number : 100 Question Id : 99836719010 Question Type : MCQ Option Shuffling : Yes Display Question Number : Yes
Single Line Question Option : No Option Orientation : Vertical

Correct Marks : 1 Wrong Marks : 0.25

Find the value of y if $3.5/y :: 7/16$.

Options :

1. ✖ 2
2. ✖ 4
3. ✔ 8
4. ✖ 16

Question Number : 100 Question Id : 99836719010 Question Type : MCQ Option Shuffling : Yes Display Question Number : Yes
Single Line Question Option : No Option Orientation : Vertical

Correct Marks : 1 Wrong Marks : 0.25

Y का मूल्य ज्ञात करें यदि $3.5/y :: 7/16$ है।

Options :

1. ✖ 2
2. ✖ 4
3. ✔ 8
4. ✖ 16

Arithmetic Ability2

Group Number :	6
Group Id :	998367685
Group Maximum Duration :	0
Group Minimum Duration :	0
Revisit allowed for view? :	No
Revisit allowed for edit? :	No
Break time:	0
Group Marks:	20
Revisit allowed for group Instructions? :	Yes
Maximum Instruction Time:	0
Minimum Instruction Time:	0

Arithmetic Ability2

Section Id :	998367806
Section Number :	1
Section type :	Online
Mandatory or Optional:	Mandatory
Number of Questions:	20
Number of Questions to be attempted:	20
Section Marks:	20
Display Number Panel:	Yes
Group All Questions:	No

Sub-Section Number:	1
Sub-Section Id:	9983671024
Question Shuffling Allowed :	Yes

Question Number : 101 Question Id : 99836719011 Question Type : MCQ Option Shuffling : Yes Display Question Number : Yes
Single Line Question Option : No Option Orientation : Vertical

Correct Marks : 1 Wrong Marks : 0.25

12 mangoes weigh 2.4 kg and 8 apples weigh 1.2 kg. Find the ratio of weight of one mango to one apple?

Options :

1. ✘ 2:1
2. ✘ 3:2
3. ✔ 4:3
4. ✘ 5:4

Question Number : 101 Question Id : 99836719011 Question Type : MCQ Option Shuffling : Yes Display Question Number : Yes
Single Line Question Option : No Option Orientation : Vertical

Correct Marks : 1 Wrong Marks : 0.25

12 आम का वजन 2.4 kg और 8 सेब का वजन 1.2 kg है। एक सेब और एक आम के वजन का अनुपात ज्ञात करें?

Options :

1. ✘ 2:1
2. ✘ 3:2
3. ✔ 4:3
4. ✘ 5:4

Question Number : 102 Question Id : 99836719012 Question Type : MCQ Option Shuffling : Yes Display Question Number : Yes
Single Line Question Option : No Option Orientation : Vertical

Correct Marks : 1 Wrong Marks : 0.25

If $X : Y : Z = 2 : 4 : 8$, then what is the ratio of $X/Y : Y/Z : Z/X$?

Options :

1. ✔ 1:1:8
2. ✘ 1:2:4
3. ✘ 1:2:2
4. ✘ 2:1:2

Question Number : 102 Question Id : 99836719012 Question Type : MCQ Option Shuffling : Yes Display Question Number : Yes
Single Line Question Option : No Option Orientation : Vertical

Correct Marks : 1 Wrong Marks : 0.25

यदि $X : Y : Z = 2 : 4 : 8$ है, तो $X/Y : Y/Z : Z/X$ का अनुपात क्या है?

Options :

1. ✔ 1:1:8
2. ✘ 1:2:4
3. ✘ 1:2:2
4. ✘ 2:1:2

Question Number : 103 Question Id : 99836719013 Question Type : MCQ Option Shuffling : Yes Display Question Number : Yes
Single Line Question Option : No Option Orientation : Vertical

Correct Marks : 1 Wrong Marks : 0.25

Find the total value if Rs. 800 is invested at 10 percent compound interest for 3 years?

Options :

1. ✘ Rs. 968
2. ✘ Rs. 1016.40
3. ✘ Rs. 1067.22
4. ✔ Rs. 1064.80

Question Number : 103 Question Id : 99836719013 Question Type : MCQ Option Shuffling : Yes Display Question Number : Yes
Single Line Question Option : No Option Orientation : Vertical

Correct Marks : 1 Wrong Marks : 0.25

यदि 800 रुपए 10 प्रतिशत चक्रवृद्धि ब्याज पर निवेश किये जाते हैं तो तीन साल में उसका कुल मूल्य कितना है?

Options :

1. ✘ 968 रुपए
2. ✘ 1016.40 रुपए
3. ✘ 1067.22 रुपए
4. ✔ 1064.80 रुपए

Question Number : 104 Question Id : 99836719014 Question Type : MCQ Option Shuffling : Yes Display Question Number : Yes
Single Line Question Option : No Option Orientation : Vertical

Correct Marks : 1 Wrong Marks : 0.25

The half yearly rate for simple interest is 12 percent, find total amount if Rs. 1600 is invested for 1 year?

Options :

1. ✘ Rs. 1792
2. ✘ Rs. 1882
3. ✔ Rs. 1984
4. ✘ Rs. 2000

Question Number : 104 Question Id : 99836719014 Question Type : MCQ Option Shuffling : Yes Display Question Number : Yes
Single Line Question Option : No Option Orientation : Vertical

Correct Marks : 1 Wrong Marks : 0.25

साधारण ब्याज के लिए अर्धवार्षिक दर 12 प्रतिशत है, यदि कुल राशि 1600 रुपए का निवेश 1 वर्ष के लिए किया जाता है, तो कुल राशि कितनी है

Options :

1. ✘ 1792 रुपए
2. ✘ 1882 रुपए
3. ✔ 1984 रुपए
4. ✘ 2000 रुपए

Question Number : 105 Question Id : 99836719015 Question Type : MCQ Option Shuffling : Yes Display Question Number : Yes
Single Line Question Option : No Option Orientation : Vertical

Correct Marks : 1 Wrong Marks : 0.25

Find the difference between Compound Interest and Simple Interest on Rs. 5000 for 2 years at 16 percent?

Options :

1. ✘ Rs. 768
2. ✘ Rs. 512
3. ✘ Rs. 256
4. ✔ Rs. 128

Question Number : 105 Question Id : 99836719015 Question Type : MCQ Option Shuffling : Yes Display Question Number : Yes
Single Line Question Option : No Option Orientation : Vertical

Correct Marks : 1 Wrong Marks : 0.25

5000 रुपए के 16 प्रतिशत की दर से 2 वर्ष में चक्रवृद्धि ब्याज और साधारण ब्याज के बीच का अंतर ज्ञात करें

Options :

1. ✘ 768 रुपए
2. ✘ 512 रुपए
3. ✘ 256 रुपए
4. ✔ 128 रुपए

Question Number : 106 Question Id : 99836719016 Question Type : MCQ Option Shuffling : Yes Display Question Number : Yes
Single Line Question Option : No Option Orientation : Vertical

Correct Marks : 1 Wrong Marks : 0.25

P leaves for the airport 4 hours before the boarding time by a taxi which travels at the speed of 40 km/hr and after traveling for 0.5 hours, his taxi meets with an accident causing him to be forced to wait for a bus for 15 minutes. He finally gets a bus which takes him to the airport at a speed of 50 km/hr. If P reaches the airport 2 hours before the boarding time, then what was the total distance covered by P?

Options :

- ✓ 82.5 km
- ✗ 85 km
- ✗ 72.5 km
- ✗ 75 km

Question Number : 106 Question Id : 99836719016 Question Type : MCQ Option Shuffling : Yes Display Question Number : Yes Single Line Question Option : No Option Orientation : Vertical

Correct Marks : 1 Wrong Marks : 0.25

P, टैक्सी द्वारा बोर्डिंग टाइम से 4 घंटे पहले हवाई अड्डे के लिए रवाना होता है। टैक्सी 40 km/hr की रफ़्तार से यात्रा करती है तथा 0.5 घंटे की यात्रा के बाद दुर्घटनाग्रस्त हो जाती है, और P को 15 मिनट तक बस का इंतज़ार करने पड़ता है। आखिर कार उसे 50 km/h की गति से जाने वाली बस मिल गई जो उसे हवाई अड्डे तक ले जाती है। यदि P बोर्डिंग टाइम से 2 घंटे पहले हवाई अड्डे पोहोच जाता है, तो P द्वारा तय की गई कुल दूरी कितनी है?

Options :

- ✓ 82.5 km
- ✗ 85 km
- ✗ 72.5 km
- ✗ 75 km

Question Number : 107 Question Id : 99836719017 Question Type : MCQ Option Shuffling : Yes Display Question Number : Yes Single Line Question Option : No Option Orientation : Vertical

Correct Marks : 1 Wrong Marks : 0.25

What is the measure of the angle formed the hour and minute hand when the clock strikes 4:10?

Options :

- ✗ 55 degrees
- ✗ 60 degrees
- ✓ 65 degrees
- ✗ 70 degrees

Question Number : 107 Question Id : 99836719017 Question Type : MCQ Option Shuffling : Yes Display Question Number : Yes Single Line Question Option : No Option Orientation : Vertical

Correct Marks : 1 Wrong Marks : 0.25

जब घड़ी में 4:10 बजता है तब घंटे और मिनट के सुई के बीच कोन का डिग्री क्या है?

Options :

- ✗ 55 डिग्री
- ✗ 60 डिग्री
- ✓ 65 डिग्री
- ✗ 70 डिग्री

Question Number : 108 Question Id : 99836719018 Question Type : MCQ Option Shuffling : Yes Display Question Number : Yes Single Line Question Option : No Option Orientation : Vertical

Correct Marks : 1 Wrong Marks : 0.25

An ambulance runs at an average speed of 50 km/h. What is the speed calculated in m/s (metres per second)?

Options :

- ✗ 8.33 m/s
- ✓ 13.89 m/s

3. ✘ 83.3 m/s
4. ✘ 138.9 m/s

Question Number : 108 Question Id : 99836719018 Question Type : MCQ Option Shuffling : Yes Display Question Number : Yes
Single Line Question Option : No Option Orientation : Vertical

Correct Marks : 1 Wrong Marks : 0.25

एक एम्बुलेंस 50 km/h की औसत गति से चलती है। m/s (मीटर प्रति सेकंड) में उसकी गति क्या है?

Options :

1. ✘ 8.33 m/s
2. ✔ 13.89 m/s
3. ✘ 83.3 m/s
4. ✘ 138.9 m/s

Question Number : 109 Question Id : 99836719019 Question Type : MCQ Option Shuffling : Yes Display Question Number : Yes
Single Line Question Option : No Option Orientation : Vertical

Correct Marks : 1 Wrong Marks : 0.25

A and B start building a wall and complete it in 20 days. C and D started building a wall 20 percent bigger than the size of the wall built by A and B. If C and D work with the same efficiency level as A and B, then in how many days will they complete their wall?

Options :

1. ✔ 24 days
2. ✘ 16.67 days
3. ✘ 22 days
4. ✘ 13.67 days

Question Number : 109 Question Id : 99836719019 Question Type : MCQ Option Shuffling : Yes Display Question Number : Yes
Single Line Question Option : No Option Orientation : Vertical

Correct Marks : 1 Wrong Marks : 0.25

A और B एक दीवार का निर्माण कार्य शुरू करते हैं और इसे 20 दिनों में पूरा करते हैं। C और D ने A और B द्वारा निर्मित दीवार के आकार से 20 प्रतिशत बड़ी एक दीवार का निर्माण शुरू किया। यदि C और D, A और B के सामान दक्षता स्तर के साथ काम करते हैं, तो वे अपनी दीवार को कितने दिनों में पूरा करेंगे?

Options :

1. ✔ 24 दिन
2. ✘ 16.67 दिन
3. ✘ 22 दिन
4. ✘ 13.67 दिन

Question Number : 110 Question Id : 99836719020 Question Type : MCQ Option Shuffling : Yes Display Question Number : Yes
Single Line Question Option : No Option Orientation : Vertical

Correct Marks : 1 Wrong Marks : 0.25

20 men can build a road in 30 days. After working for some days, it was decided to complete the work in 20 days by increasing the workers to a total of 40 men. After how many days was the number of workers increased?

Options :

1. ✘ 8 days
2. ✔ 10 days
3. ✘ 12 days
4. ✘ 15 days

Question Number : 110 Question Id : 99836719020 Question Type : MCQ Option Shuffling : Yes Display Question Number : Yes
Single Line Question Option : No Option Orientation : Vertical

Correct Marks : 1 Wrong Marks : 0.25

20 आदमी 30 दिन में सड़क बना सकते हैं। कुछ दिनों तक काम करने के बाद, श्रमिकों की संख्या को कुल 40 पुरुषों तक बढ़ाकर 20 दिनों में काम पूरा करने का निर्णय लिया गया। श्रमिकों की संख्या को कितने दिनों के बाद बढ़ाया गया था?

Options :

1. ✘ 8 दिन
2. ✔ 10 दिन
3. ✘ 12 दिन
4. ✘ 15 दिन

Question Number : 111 Question Id : 99836719021 Question Type : MCQ Option Shuffling : Yes Display Question Number : Yes
Single Line Question Option : No Option Orientation : Vertical

Correct Marks : 1 Wrong Marks : 0.25

A machine can pick 100 kg tea leaves in 1 day. 30 women can pick 360 kg tea leaves per day. If the machine can work on alternate days, find the total amount of tea collected in 10 days.

Options :

1. ✘ 2300 kg
2. ✘ 2950 kg
3. ✘ 3600 kg
4. ✔ 4100 kg

Question Number : 111 Question Id : 99836719021 Question Type : MCQ Option Shuffling : Yes Display Question Number : Yes
Single Line Question Option : No Option Orientation : Vertical

Correct Marks : 1 Wrong Marks : 0.25

एक मशीन 1 दिन में 100 kg चाय की पत्ती चुन सकती है। 30 महिलाएं प्रति दिन 360 kg चाय की पत्ती चुन सकती हैं। यदि मशीन वैकल्पिक दिनों में काम कर सकती है, तो 10 दिनों में एकत्र की गई चाय का वजन ज्ञात करें?

Options :

1. ✘ 2300 kg
2. ✘ 2950 kg
3. ✘ 3600 kg
4. ✔ 4100 kg

Question Number : 112 Question Id : 99836719022 Question Type : MCQ Option Shuffling : Yes Display Question Number : Yes
Single Line Question Option : No Option Orientation : Vertical

Correct Marks : 1 Wrong Marks : 0.25

If the surface area of a sphere is 616 sq cm, what will be its diameter?

Options :

1. ✘ 3.5 cm
2. ✘ 7 cm
3. ✘ 10.5 cm
4. ✔ 14 cm

Question Number : 112 Question Id : 99836719022 Question Type : MCQ Option Shuffling : Yes Display Question Number : Yes
Single Line Question Option : No Option Orientation : Vertical

Correct Marks : 1 Wrong Marks : 0.25

यदि एक गोल के सतह का क्षेत्रफल 616 sq cm है, तो इसका व्यास क्या होगा?

Options :

1. ✘ 3.5 cm
2. ✘ 7 cm

3. ✘ 10.5 cm

4. ✔ 14 cm

Question Number : 113 Question Id : 99836719023 Question Type : MCQ Option Shuffling : Yes Display Question Number : Yes
Single Line Question Option : No Option Orientation : Vertical

Correct Marks : 1 Wrong Marks : 0.25

8 people eat the same amount of pizza. Together they order one pizza with radius 8 cm. The next day, only 6 people attend work, what should be the radius of the pizza if each person eats the same amount?

Options :

1. ✘ 4 cm

2. ✔ $4\sqrt{3}$ cm

3. ✘ $6\sqrt{3}$ cm

4. ✘ 8 cm

Question Number : 113 Question Id : 99836719023 Question Type : MCQ Option Shuffling : Yes Display Question Number : Yes
Single Line Question Option : No Option Orientation : Vertical

Correct Marks : 1 Wrong Marks : 0.25

8 लोग एक ही मात्रा में पिज्जा खाते हैं। वे एक साथ त्रिज्या 8 cm के एक पिज्जा का ऑर्डर देते हैं। अगले दिन, केवल 6 लोग काम पर आते हैं, पिज्जा की त्रिज्या (cm में) क्या होनी चाहिए, यदि प्रत्येक व्यक्ति समान मात्रा में खाता है?

Options :

1. ✘ 4 cm

2. ✔ $4\sqrt{3}$ cm

3. ✘ $6\sqrt{3}$ cm

4. ✘ 8 cm

Question Number : 114 Question Id : 99836719024 Question Type : MCQ Option Shuffling : Yes Display Question Number : Yes
Single Line Question Option : No Option Orientation : Vertical

Correct Marks : 1 Wrong Marks : 0.25

A rectangle with sides 3 cm and 4 cm is cut along the diagonal. Calculate the perimeter of one part.

Options :

1. ✔ 12 cm

2. ✘ 15 cm

3. ✘ 17 cm

4. ✘ 19 cm

Question Number : 114 Question Id : 99836719024 Question Type : MCQ Option Shuffling : Yes Display Question Number : Yes
Single Line Question Option : No Option Orientation : Vertical

Correct Marks : 1 Wrong Marks : 0.25

3 cm और 4 cm के भाग वाले आयत को विकर्ण पे काटा जाता है। एक भाग के परिमाप की गणना करें?

Options :

1. ✔ 12 cm

2. ✘ 15 cm

3. ✘ 17 cm

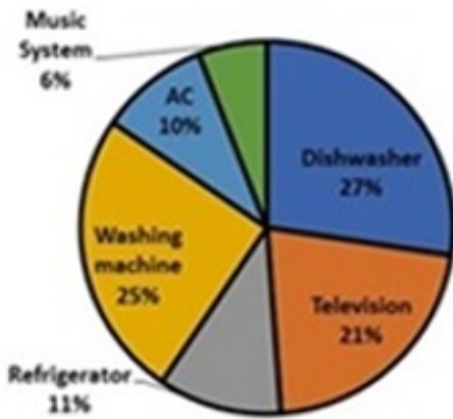
4. ✘ 19 cm

Question Number : 115 Question Id : 99836719025 Question Type : MCQ Option Shuffling : Yes Display Question Number : Yes
Single Line Question Option : No Option Orientation : Vertical

Correct Marks : 1 Wrong Marks : 0.25

Refer the pie chart and calculate the number of washing machines sold, if the total number of appliances sold during the year is 8400 units.

Sale of Appliances



Options :

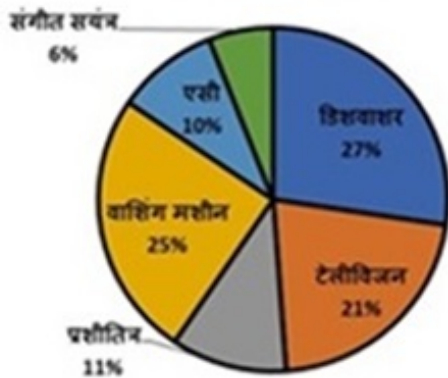
- ✘ 2000
- ✘ 3200
- ✘ 2400
- ✔ 2100

Question Number : 115 Question Id : 99836719025 Question Type : MCQ Option Shuffling : Yes Display Question Number : Yes Single Line Question Option : No Option Orientation : Vertical

Correct Marks : 1 Wrong Marks : 0.25

पाई चार्ट के अनुसार देखें और बेची गई वाशिंग मशीनों की संख्या की गणना करें, यदि वर्ष के दौरान बेचे गए उपकरणों की कुल संख्या 8400 यूनिट है

उपकरणों की बिक्री



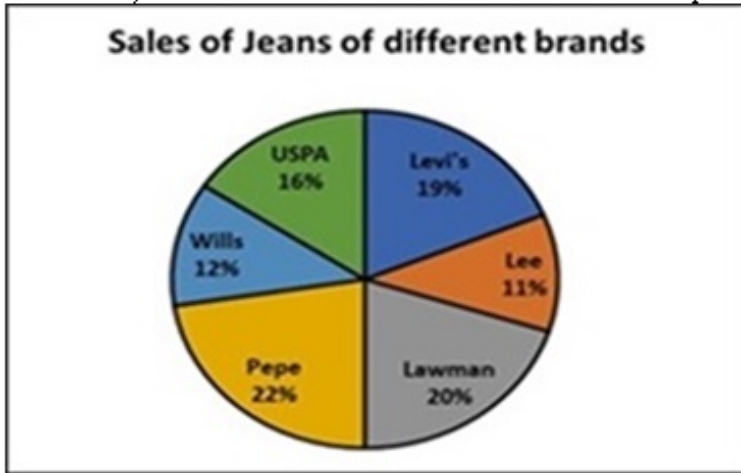
Options :

- ✘ 2000
- ✘ 3200
- ✘ 2400
- ✔ 2100

Question Number : 116 Question Id : 99836719026 Question Type : MCQ Option Shuffling : Yes Display Question Number : Yes Single Line Question Option : No Option Orientation : Vertical

Correct Marks : 1 Wrong Marks : 0.25

Refer to the pie chart below. A garment seller sells 5 brands of jeans. If his total sale is Rs. 80000 per day, how many brands have sales less than Rs. 10000 per day?



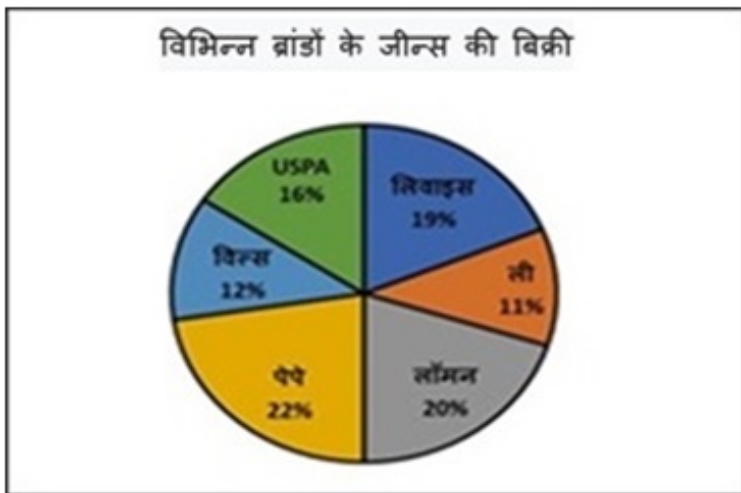
Options :

- ✘ 5
- ✘ 4
- ✘ 3
- ✔ 2

Question Number : 116 Question Id : 99836719026 Question Type : MCQ Option Shuffling : Yes Display Question Number : Yes Single Line Question Option : No Option Orientation : Vertical

Correct Marks : 1 Wrong Marks : 0.25

नीचे दिए गए पाई चार्ट को देखें। एक कपड़ा विक्रेता 5 ब्रांड की जींस बेचता है। यदि उसकी कुल बिक्री 80000 रुपये प्रति दिन है तो कितने ब्रांडों की बिक्री 10000 रुपये प्रति दिन से कम है?



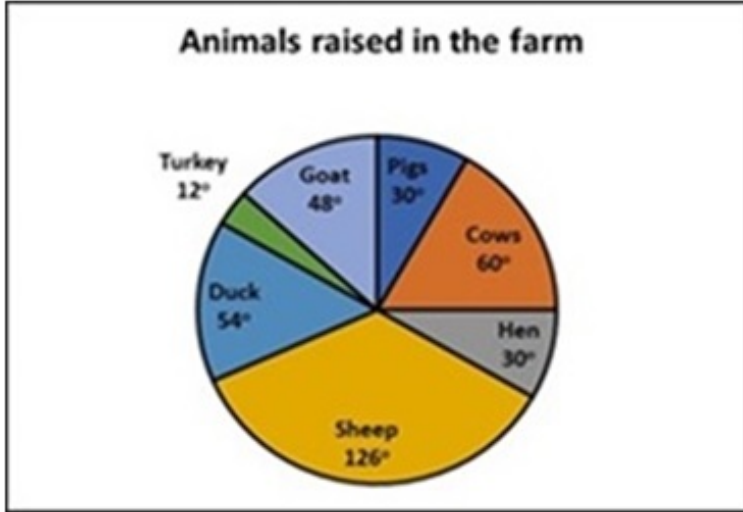
Options :

- ✘ 5
- ✘ 4
- ✘ 3
- ✔ 2

Question Number : 117 Question Id : 99836719027 Question Type : MCQ Option Shuffling : Yes Display Question Number : Yes Single Line Question Option : No Option Orientation : Vertical

Correct Marks : 1 Wrong Marks : 0.25

Refer to the pie chart showing the different animals raised in a farm. Find the ratio of pigs, sheep and cows, if the total number of animals in the farm are 500. The degrees shown in the pie chart are in proportion to the number of animals.



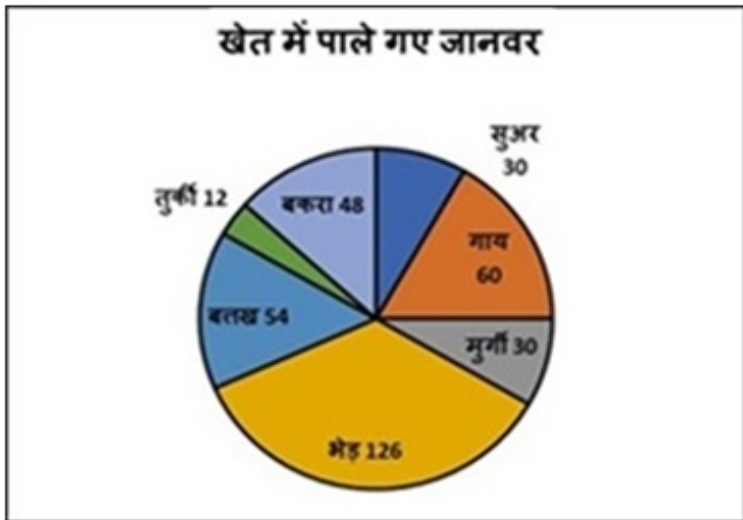
Options :

1. ✘ 21:10:5
2. ✘ 10:5:21
3. ✔ 5:21:10
4. ✘ 10:21:5

Question Number : 117 Question Id : 99836719027 Question Type : MCQ Option Shuffling : Yes Display Question Number : Yes Single Line Question Option : No Option Orientation : Vertical

Correct Marks : 1 Wrong Marks : 0.25

एक खेत में पाले गए विभिन्न जानवरों को दर्शाये गए पाई चार्ट को देखें। सूअर, भेड़ और गायों के अनुपात को ज्ञात करें, यदि खेत में जानवरों की कुल संख्या 500 है। पाई चार्ट में दिखाई गई डिग्री जानवरों की संख्या के अनुपात में हैं।



Options :

1. ✘ 21:10:5
2. ✘ 10:5:21
3. ✔ 5:21:10
4. ✘ 10:21:5

Question Number : 118 Question Id : 99836719028 Question Type : MCQ Option Shuffling : Yes Display Question Number : Yes Single Line Question Option : No Option Orientation : Vertical

Correct Marks : 1 Wrong Marks : 0.25

The following line graph shows the earnings of P and Q (in rupees) over 6 months period. In how many months was the earnings of Q more than P by at least 20 percent?



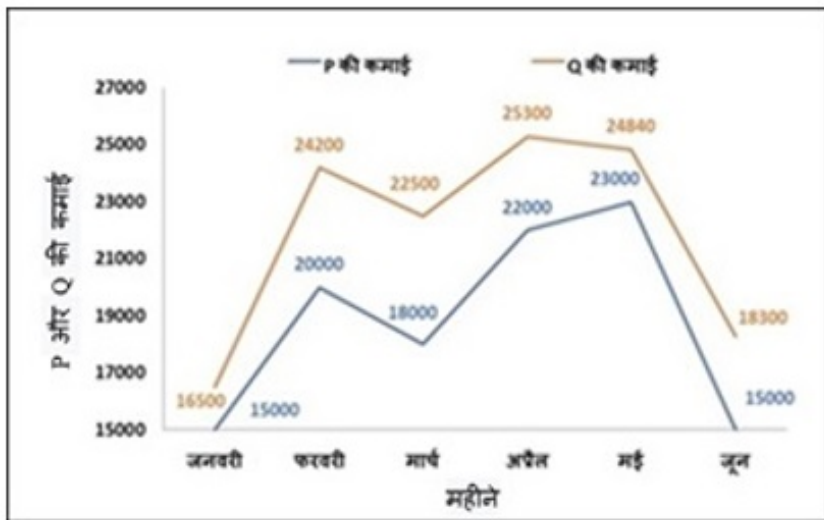
Options :

1. ✘ 4
2. ✔ 3
3. ✘ 5
4. ✘ 6

Question Number : 118 Question Id : 99836719028 Question Type : MCQ Option Shuffling : Yes Display Question Number : Yes Single Line Question Option : No Option Orientation : Vertical

Correct Marks : 1 Wrong Marks : 0.25

निम्नलिखित लाइन ग्राफ 6 महीने की अवधि में P और Q की कमाई (रुपये में) को दर्शाता है। P की तुलना में Q की कमाई कितने महीनों में कम से कम 20 प्रतिशत ज्यादा थी?



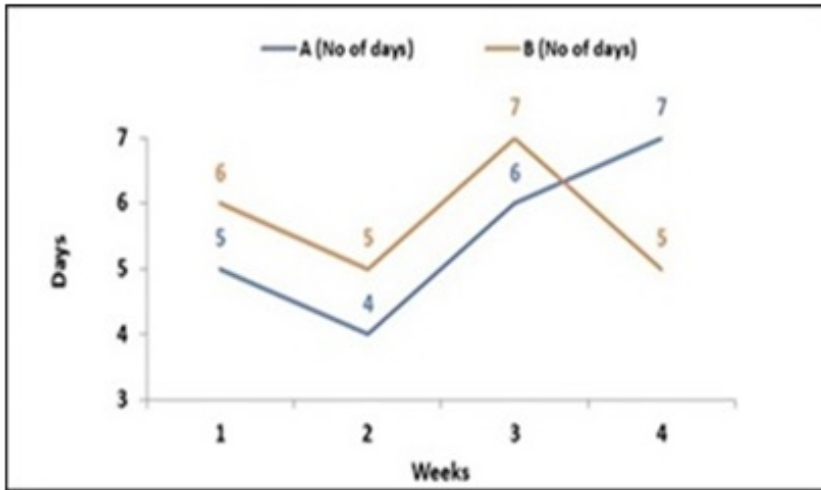
Options :

1. ✘ 4
2. ✔ 3
3. ✘ 5
4. ✘ 6

Question Number : 119 Question Id : 99836719029 Question Type : MCQ Option Shuffling : Yes Display Question Number : Yes Single Line Question Option : No Option Orientation : Vertical

Correct Marks : 1 Wrong Marks : 0.25

The time taken (in days) by A and B to complete their work in 4 different weeks is shown in the graph. In how many weeks is the efficiency of B higher than A?



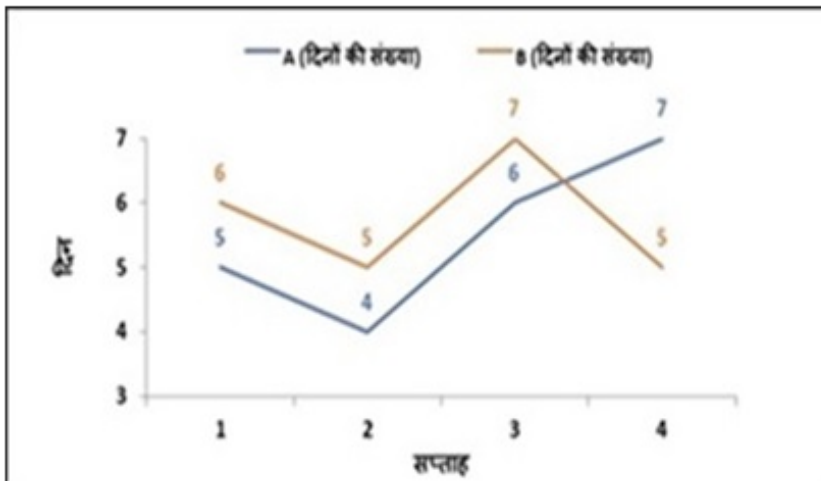
Options :

1. ✓ 1
2. ✗ 2
3. ✗ 3
4. ✗ 4

Question Number : 119 Question Id : 99836719029 Question Type : MCQ Option Shuffling : Yes Display Question Number : Yes Single Line Question Option : No Option Orientation : Vertical

Correct Marks : 1 Wrong Marks : 0.25

A और B द्वारा 4 अलग-अलग हफ्तों में अपना काम पूरा करने के लिए लिया गया समय (दिनों में) ग्राफ में दर्शाया गया है। B की A से कितने हफ्तों की दक्षता अधिक है?



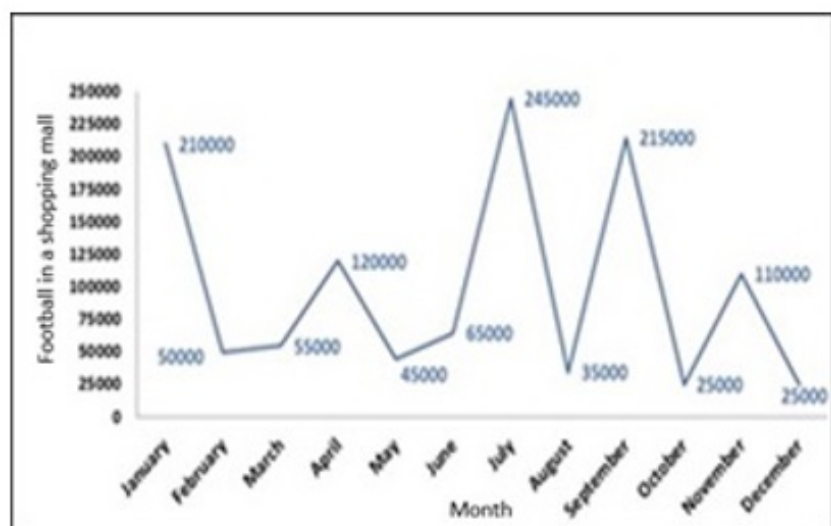
Options :

1. ✓ 1
2. ✗ 2
3. ✗ 3
4. ✗ 4

Question Number : 120 Question Id : 99836719030 Question Type : MCQ Option Shuffling : Yes Display Question Number : Yes Single Line Question Option : No Option Orientation : Vertical

Correct Marks : 1 Wrong Marks : 0.25

Refer the graph and calculate the number of months in which the footfall in a shopping mall exceed 200000, if the footfall per year is 1200000.



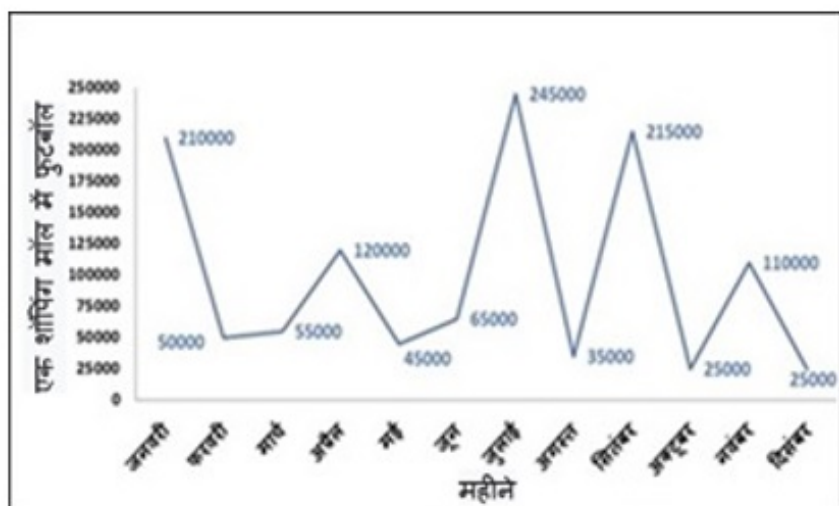
Options :

1. ✘ 4
2. ✘ 5
3. ✘ 7
4. ✔ 3

Question Number : 120 Question Id : 99836719030 Question Type : MCQ Option Shuffling : Yes Display Question Number : Yes Single Line Question Option : No Option Orientation : Vertical

Correct Marks : 1 Wrong Marks : 0.25

ग्राफ को देखें और उन महीनों की संख्या की गणना करें, जिसमें एक शॉपिंग मॉल में फुटफॉल 200000 से अधिक है, यदि प्रति वर्ष फुटफॉल 1200000 है।



Options :

1. ✘ 4
2. ✘ 5
3. ✘ 7
4. ✔ 3

Group Id :	998367686
Group Maximum Duration :	0
Group Minimum Duration :	0
Revisit allowed for view? :	No
Revisit allowed for edit? :	No
Break time:	0
Group Marks:	20
Revisit allowed for group Instructions? :	Yes
Maximum Instruction Time:	0
Minimum Instruction Time:	0

General English 1

Section Id :	998367807
Section Number :	1
Section type :	Online
Mandatory or Optional:	Mandatory
Number of Questions:	20
Number of Questions to be attempted:	20
Section Marks:	20
Display Number Panel:	Yes
Group All Questions:	No

Sub-Section Number:	1
Sub-Section Id:	9983671025
Question Shuffling Allowed :	Yes

Question Number : 121 Question Id : 99836719031 Question Type : MCQ Option Shuffling : Yes Display Question Number : Yes
Single Line Question Option : No Option Orientation : Vertical

Correct Marks : 1 Wrong Marks : 0.25

The sentence below has been divided into three parts. Select the part of the sentence that has an error. If the sentence has no error, select the option 'No Error'.

Everyone in this / town will benefit / into the new hospital.

Options :

1. ✘ Everyone in this
2. ✘ town will benefit
3. ✔ into the new hospital.
4. ✘ No Error

Question Number : 121 Question Id : 99836719031 Question Type : MCQ Option Shuffling : Yes Display Question Number : Yes
Single Line Question Option : No Option Orientation : Vertical

Correct Marks : 1 Wrong Marks : 0.25

The sentence below has been divided into three parts. Select the part of the sentence that has an error. If the sentence has no error, select the option 'No Error'.

Everyone in this / town will benefit / into the new hospital.

Options :

1. ✘ Everyone in this
2. ✘ town will benefit
3. ✔ into the new hospital.

4. ✘ No Error

Question Number : 122 Question Id : 99836719032 Question Type : MCQ Option Shuffling : Yes Display Question Number : Yes
Single Line Question Option : No Option Orientation : Vertical

Correct Marks : 1 Wrong Marks : 0.25

The sentence below has been divided into three parts. Select the part of the sentence that has an error. If the sentence has no error, select the option 'No Error'.

Our atmosphere consists / among oxygen, nitrogen / and carbon dioxide.

Options :

1. ✘ Our atmosphere consists
2. ✔ among oxygen, nitrogen
3. ✘ and carbon dioxide.
4. ✘ No Error

Question Number : 122 Question Id : 99836719032 Question Type : MCQ Option Shuffling : Yes Display Question Number : Yes
Single Line Question Option : No Option Orientation : Vertical

Correct Marks : 1 Wrong Marks : 0.25

The sentence below has been divided into three parts. Select the part of the sentence that has an error. If the sentence has no error, select the option 'No Error'.

Our atmosphere consists / among oxygen, nitrogen / and carbon dioxide.

Options :

1. ✘ Our atmosphere consists
2. ✔ among oxygen, nitrogen
3. ✘ and carbon dioxide.
4. ✘ No Error

Question Number : 123 Question Id : 99836719033 Question Type : MCQ Option Shuffling : Yes Display Question Number : Yes
Single Line Question Option : No Option Orientation : Vertical

Correct Marks : 1 Wrong Marks : 0.25

The sentence below has been divided into three parts. Select the part of the sentence that has an error. If the sentence has no error, select the option 'No Error'.

I looks forward / to having a meeting with / you next week.

Options :

1. ✔ I looks forward
2. ✘ to having a meeting with
3. ✘ you next week.
4. ✘ No Error

Question Number : 123 Question Id : 99836719033 Question Type : MCQ Option Shuffling : Yes Display Question Number : Yes
Single Line Question Option : No Option Orientation : Vertical

Correct Marks : 1 Wrong Marks : 0.25

The sentence below has been divided into three parts. Select the part of the sentence that has an error. If the sentence has no error, select the option 'No Error'.

I looks forward / to having a meeting with / you next week.

Options :

1. ✔ I looks forward
2. ✘ to having a meeting with

3. ✘ you next week.
4. ✘ No Error

Question Number : 124 Question Id : 99836719034 Question Type : MCQ Option Shuffling : Yes Display Question Number : Yes
Single Line Question Option : No Option Orientation : Vertical

Correct Marks : 1 Wrong Marks : 0.25

The sentence below has been divided into three parts. Select the part of the sentence that has an error. If the sentence has no error, select the option 'No Error'.

Raju always keeps / asked for more money at / the end of the week.

Options :

1. ✘ Raju always keeps
2. ✔ asked for more money at
3. ✘ the end of the week.
4. ✘ No Error

Question Number : 124 Question Id : 99836719034 Question Type : MCQ Option Shuffling : Yes Display Question Number : Yes
Single Line Question Option : No Option Orientation : Vertical

Correct Marks : 1 Wrong Marks : 0.25

The sentence below has been divided into three parts. Select the part of the sentence that has an error. If the sentence has no error, select the option 'No Error'.

Raju always keeps / asked for more money at / the end of the week.

Options :

1. ✘ Raju always keeps
2. ✔ asked for more money at
3. ✘ the end of the week.
4. ✘ No Error

Question Number : 125 Question Id : 99836719035 Question Type : MCQ Option Shuffling : Yes Display Question Number : Yes
Single Line Question Option : No Option Orientation : Vertical

Correct Marks : 1 Wrong Marks : 0.25

The sentence below has been divided into three parts. Select the part of the sentence that has an error. If the sentence has no error, select the option 'No Error'.

Why are you / putting on / yours raincoat?

Options :

1. ✘ Why are you
2. ✘ putting on
3. ✔ yours raincoat?
4. ✘ No Error

Question Number : 125 Question Id : 99836719035 Question Type : MCQ Option Shuffling : Yes Display Question Number : Yes
Single Line Question Option : No Option Orientation : Vertical

Correct Marks : 1 Wrong Marks : 0.25

The sentence below has been divided into three parts. Select the part of the sentence that has an error. If the sentence has no error, select the option 'No Error'.

Why are you / putting on / yours raincoat?

Options :

1. ✘ Why are you

2. ✘ putting on
3. ✔ yours raincoat?
4. ✘ No Error

Question Number : 126 Question Id : 99836719036 Question Type : MCQ Option Shuffling : Yes Display Question Number : Yes
Single Line Question Option : No Option Orientation : Vertical

Correct Marks : 1 Wrong Marks : 0.25

Select the word segment that substitutes (replaces) the bracketed word segment correctly and completes the sentence meaningfully.

Grandpa (will stay along) us for 3 days.

Options :

1. ✘ will staying with
2. ✘ will stays with
3. ✔ will stay with
4. ✘ No correction required

Question Number : 126 Question Id : 99836719036 Question Type : MCQ Option Shuffling : Yes Display Question Number : Yes
Single Line Question Option : No Option Orientation : Vertical

Correct Marks : 1 Wrong Marks : 0.25

Select the word segment that substitutes (replaces) the bracketed word segment correctly and completes the sentence meaningfully.

Grandpa (will stay along) us for 3 days.

Options :

1. ✘ will staying with
2. ✘ will stays with
3. ✔ will stay with
4. ✘ No correction required

Question Number : 127 Question Id : 99836719037 Question Type : MCQ Option Shuffling : Yes Display Question Number : Yes
Single Line Question Option : No Option Orientation : Vertical

Correct Marks : 1 Wrong Marks : 0.25

Select the word segment that substitutes (replaces) the bracketed word segment correctly and completes the sentence meaningfully.

My mom (hates in eating) seafood in a restaurant.

Options :

1. ✔ hates eating
2. ✘ hates to be eating
3. ✘ hate eating
4. ✘ No correction required

Question Number : 127 Question Id : 99836719037 Question Type : MCQ Option Shuffling : Yes Display Question Number : Yes
Single Line Question Option : No Option Orientation : Vertical

Correct Marks : 1 Wrong Marks : 0.25

Select the word segment that substitutes (replaces) the bracketed word segment correctly and completes the sentence meaningfully.

My mom (hates in eating) seafood in a restaurant.

Options :

1. ✓ hates eating
2. ✗ hates to be eating
3. ✗ hate eating
4. ✗ No correction required

Question Number : 128 Question Id : 99836719038 Question Type : MCQ Option Shuffling : Yes Display Question Number : Yes
Single Line Question Option : No Option Orientation : Vertical

Correct Marks : 1 Wrong Marks : 0.25

Select the word segment that substitutes (replaces) the bracketed word segment correctly and completes the sentence meaningfully.

Sri Lanka (is yet to recover) from the terrorist attacks last year.

Options :

1. ✗ is yet to recovering
2. ✗ yet to recovers
3. ✗ is yet to recovers
4. ✓ No correction required

Question Number : 128 Question Id : 99836719038 Question Type : MCQ Option Shuffling : Yes Display Question Number : Yes
Single Line Question Option : No Option Orientation : Vertical

Correct Marks : 1 Wrong Marks : 0.25

Select the word segment that substitutes (replaces) the bracketed word segment correctly and completes the sentence meaningfully.

Sri Lanka (is yet to recover) from the terrorist attacks last year.

Options :

1. ✗ is yet to recovering
2. ✗ yet to recovers
3. ✗ is yet to recovers
4. ✓ No correction required

Question Number : 129 Question Id : 99836719039 Question Type : MCQ Option Shuffling : Yes Display Question Number : Yes
Single Line Question Option : No Option Orientation : Vertical

Correct Marks : 1 Wrong Marks : 0.25

Select the word segment that substitutes (replaces) the bracketed word segment correctly and completes the sentence meaningfully.

Ideally you should always (exercise before have the) breakfast.

Options :

1. ✗ exercise before had
2. ✗ exercise before haves
3. ✓ exercise before having
4. ✗ No correction required

Question Number : 129 Question Id : 99836719039 Question Type : MCQ Option Shuffling : Yes Display Question Number : Yes
Single Line Question Option : No Option Orientation : Vertical

Correct Marks : 1 Wrong Marks : 0.25

Select the word segment that substitutes (replaces) the bracketed word segment correctly and completes the sentence meaningfully.

Ideally you should always (exercise before have the) breakfast.

Options :

- ✘ exercise before had
- ✘ exercise before haves
- ✔ exercise before having
- ✘ No correction required

Question Number : 130 Question Id : 99836719040 Question Type : MCQ Option Shuffling : Yes Display Question Number : Yes
Single Line Question Option : No Option Orientation : Vertical

Correct Marks : 1 Wrong Marks : 0.25

Select the word segment that substitutes (replaces) the bracketed word segment correctly and completes the sentence meaningfully.

Water crisis (is the banes) of city living.

Options :

- ✘ is the banning
- ✔ is the bane
- ✘ is for bane
- ✘ No correction required

Question Number : 130 Question Id : 99836719040 Question Type : MCQ Option Shuffling : Yes Display Question Number : Yes
Single Line Question Option : No Option Orientation : Vertical

Correct Marks : 1 Wrong Marks : 0.25

Select the word segment that substitutes (replaces) the bracketed word segment correctly and completes the sentence meaningfully.

Water crisis (is the banes) of city living.

Options :

- ✘ is the banning
- ✔ is the bane
- ✘ is for bane
- ✘ No correction required

Question Number : 131 Question Id : 99836719041 Question Type : MCQ Option Shuffling : Yes Display Question Number : Yes
Single Line Question Option : No Option Orientation : Vertical

Correct Marks : 1 Wrong Marks : 0.25

Select the word that fills in the blank correctly and completes the sentence meaningfully.

Mickey fell asleep_____ the physics lecture.

Options :

- ✔ during
- ✘ for
- ✘ from
- ✘ on

Question Number : 131 Question Id : 99836719041 Question Type : MCQ Option Shuffling : Yes Display Question Number : Yes
Single Line Question Option : No Option Orientation : Vertical

Correct Marks : 1 Wrong Marks : 0.25

Select the word that fills in the blank correctly and completes the sentence meaningfully.

Mickey fell asleep_____ the physics lecture.

Options :

1. ✓ during
2. ✗ for
3. ✗ from
4. ✗ on

Question Number : 132 Question Id : 99836719042 Question Type : MCQ Option Shuffling : Yes Display Question Number : Yes
Single Line Question Option : No Option Orientation : Vertical

Correct Marks : 1 Wrong Marks : 0.25

Select the word that fills in the blank correctly and completes the sentence meaningfully.

Joseph is going to _____ dinner with friends later tonight.

Options :

1. ✗ haved
2. ✗ haves
3. ✗ having
4. ✓ have

Question Number : 132 Question Id : 99836719042 Question Type : MCQ Option Shuffling : Yes Display Question Number : Yes
Single Line Question Option : No Option Orientation : Vertical

Correct Marks : 1 Wrong Marks : 0.25

Select the word that fills in the blank correctly and completes the sentence meaningfully.

Joseph is going to _____ dinner with friends later tonight.

Options :

1. ✗ haved
2. ✗ haves
3. ✗ having
4. ✓ have

Question Number : 133 Question Id : 99836719043 Question Type : MCQ Option Shuffling : Yes Display Question Number : Yes
Single Line Question Option : No Option Orientation : Vertical

Correct Marks : 1 Wrong Marks : 0.25

Select the word that fills in the blank correctly and completes the sentence meaningfully.

The quick red fox jumped _____ the bushes.

Options :

1. ✗ under
2. ✓ over
3. ✗ against
4. ✗ on

Question Number : 133 Question Id : 99836719043 Question Type : MCQ Option Shuffling : Yes Display Question Number : Yes
Single Line Question Option : No Option Orientation : Vertical

Correct Marks : 1 Wrong Marks : 0.25

Select the word that fills in the blank correctly and completes the sentence meaningfully.

The quick red fox jumped _____ the bushes.

Options :

1. ✗ under
2. ✓ over

3. ✘ against

4. ✘ on

Question Number : 134 Question Id : 99836719044 Question Type : MCQ Option Shuffling : Yes Display Question Number : Yes
Single Line Question Option : No Option Orientation : Vertical

Correct Marks : 1 Wrong Marks : 0.25

Select the word that fills in the blank correctly and completes the sentence meaningfully.

Mrs. Kulkarni left her bag _____home.

Options :

1. ✘ on

2. ✘ in

3. ✔ at

4. ✘ from

Question Number : 134 Question Id : 99836719044 Question Type : MCQ Option Shuffling : Yes Display Question Number : Yes
Single Line Question Option : No Option Orientation : Vertical

Correct Marks : 1 Wrong Marks : 0.25

Select the word that fills in the blank correctly and completes the sentence meaningfully.

Mrs. Kulkarni left her bag _____home.

Options :

1. ✘ on

2. ✘ in

3. ✔ at

4. ✘ from

Question Number : 135 Question Id : 99836719045 Question Type : MCQ Option Shuffling : Yes Display Question Number : Yes
Single Line Question Option : No Option Orientation : Vertical

Correct Marks : 1 Wrong Marks : 0.25

Select the word that fills in the blank correctly and completes the sentence meaningfully.

The yellow hibiscus plant in _____garden grew tall and flowered well.

Options :

1. ✘ a

2. ✘ an

3. ✔ the

4. ✘ around

Question Number : 135 Question Id : 99836719045 Question Type : MCQ Option Shuffling : Yes Display Question Number : Yes
Single Line Question Option : No Option Orientation : Vertical

Correct Marks : 1 Wrong Marks : 0.25

Select the word that fills in the blank correctly and completes the sentence meaningfully.

The yellow hibiscus plant in _____garden grew tall and flowered well.

Options :

1. ✘ a

2. ✘ an

3. ✔ the

4. ✘ around

Question Number : 136 Question Id : 99836719046 Question Type : MCQ Option Shuffling : Yes Display Question Number : Yes
Single Line Question Option : No Option Orientation : Vertical

Correct Marks : 1 Wrong Marks : 0.25

Select the word that fills in the blank correctly and completes the sentence meaningfully.

I am _____ out for a movie tonight with my best friend.

Options :

1. ✘ gone
2. ✘ goes
3. ✔ going
4. ✘ goned

Question Number : 136 Question Id : 99836719046 Question Type : MCQ Option Shuffling : Yes Display Question Number : Yes
Single Line Question Option : No Option Orientation : Vertical

Correct Marks : 1 Wrong Marks : 0.25

Select the word that fills in the blank correctly and completes the sentence meaningfully.

I am _____ out for a movie tonight with my best friend.

Options :

1. ✘ gone
2. ✘ goes
3. ✔ going
4. ✘ goned

Question Number : 137 Question Id : 99836719047 Question Type : MCQ Option Shuffling : Yes Display Question Number : Yes
Single Line Question Option : No Option Orientation : Vertical

Correct Marks : 1 Wrong Marks : 0.25

Select the word that fills in the blank correctly and completes the sentence meaningfully.

Last summer vacation my family _____ many beautiful places in the North East.

Options :

1. ✘ visiting
2. ✔ visited
3. ✘ was visited
4. ✘ was visiting

Question Number : 137 Question Id : 99836719047 Question Type : MCQ Option Shuffling : Yes Display Question Number : Yes
Single Line Question Option : No Option Orientation : Vertical

Correct Marks : 1 Wrong Marks : 0.25

Select the word that fills in the blank correctly and completes the sentence meaningfully.

Last summer vacation my family _____ many beautiful places in the North East.

Options :

1. ✘ visiting
2. ✔ visited
3. ✘ was visited
4. ✘ was visiting

Question Number : 138 Question Id : 99836719048 Question Type : MCQ Option Shuffling : Yes Display Question Number : Yes
Single Line Question Option : No Option Orientation : Vertical

Correct Marks : 1 Wrong Marks : 0.25

Select the word that fills in the blank correctly and completes the sentence meaningfully.

Dr. Simran is _____ best dermatologist in India.

Options :

1. ✓ the
2. ✗ a
3. ✗ an
4. ✗ among

Question Number : 138 Question Id : 99836719048 Question Type : MCQ Option Shuffling : Yes Display Question Number : Yes
Single Line Question Option : No Option Orientation : Vertical

Correct Marks : 1 Wrong Marks : 0.25

Select the word that fills in the blank correctly and completes the sentence meaningfully.

Dr. Simran is _____ best dermatologist in India.

Options :

1. ✓ the
2. ✗ a
3. ✗ an
4. ✗ among

Question Number : 139 Question Id : 99836719049 Question Type : MCQ Option Shuffling : Yes Display Question Number : Yes
Single Line Question Option : No Option Orientation : Vertical

Correct Marks : 1 Wrong Marks : 0.25

The sentences of a paragraph have been jumbled up, and labelled P, Q, R and S. Select the option that gives the correct sequence in which these sentences should be rearranged to form a meaningful paragraph.

P:However, knowing how to write a good, well-structured story can be little tricky.

Q:Read the guidelines below and learn how to take your story writing skills from good to great!

R:The practice of writing stories is essential to good writing.

S:Stories help to break up large chunks of text and makes the content easier for readers to digest. They guide the reader through your argument by focusing on one main idea or goal.

Options :

1. ✗ RPQS
2. ✓ RSPQ
3. ✗ PQRS
4. ✗ SPQR

Question Number : 139 Question Id : 99836719049 Question Type : MCQ Option Shuffling : Yes Display Question Number : Yes
Single Line Question Option : No Option Orientation : Vertical

Correct Marks : 1 Wrong Marks : 0.25

The sentences of a paragraph have been jumbled up, and labelled P, Q, R and S. Select the option that gives the correct sequence in which these sentences should be rearranged to form a meaningful paragraph.

P:However, knowing how to write a good, well-structured story can be little tricky.

Q:Read the guidelines below and learn how to take your story writing skills from good to great!

R:The practice of writing stories is essential to good writing.

S:Stories help to break up large chunks of text and makes the content easier for readers to digest. They guide the reader through your argument by focusing on one main idea or goal.

Options :

1. ✗ RPQS

- 2. ✓ RSPQ
- 3. ✗ PQRS
- 4. ✗ SPQR

Question Number : 140 Question Id : 99836719050 Question Type : MCQ Option Shuffling : Yes Display Question Number : Yes Single Line Question Option : No Option Orientation : Vertical

Correct Marks : 1 Wrong Marks : 0.25

The sentences of a paragraph have been jumbled up, and labelled P, Q, R and S. Select the option that gives the correct sequence in which these sentences should be rearranged to form a meaningful paragraph.

P:It was formerly known as Himalayan Zoological Park and was established on 14th August, 1958 in Darjeeling (West Bengal) as a joint venture of of the Government of India (Department of Science and Technology) and Government of West Bengal (Department of Education).

Q:Padmaja Naidu Himalayan Zoo Park, is the only specialized Zoo in the country and is internationally recognized for its conservation breeding programmes of the Red Panda.

R:In 1975, Late Smt. Indira Gandhi the then Prime Minister of India dedicated the Himalayan Zoological Park, Darjeeling in Memory of Late Smt. Padmaja Naidu, ex-governor of West Bengal.

S:The zoo in May, 1993 was transferred to the Department of Forests,Government of West Bengal. At the Government of India level the Zoological Park is under the Ministry of Environment and Forests.

Options :

- 1. ✗ SPQR
- 2. ✗ PQRS
- 3. ✓ QPRS
- 4. ✗ QRSP

Question Number : 140 Question Id : 99836719050 Question Type : MCQ Option Shuffling : Yes Display Question Number : Yes Single Line Question Option : No Option Orientation : Vertical

Correct Marks : 1 Wrong Marks : 0.25

The sentences of a paragraph have been jumbled up, and labelled P, Q, R and S. Select the option that gives the correct sequence in which these sentences should be rearranged to form a meaningful paragraph.

P:It was formerly known as Himalayan Zoological Park and was established on 14th August, 1958 in Darjeeling (West Bengal) as a joint venture of of the Government of India (Department of Science and Technology) and Government of West Bengal (Department of Education).

Q:Padmaja Naidu Himalayan Zoo Park, is the only specialized Zoo in the country and is internationally recognized for its conservation breeding programmes of the Red Panda.

R:In 1975, Late Smt. Indira Gandhi the then Prime Minister of India dedicated the Himalayan Zoological Park, Darjeeling in Memory of Late Smt. Padmaja Naidu, ex-governor of West Bengal.

S:The zoo in May, 1993 was transferred to the Department of Forests,Government of West Bengal. At the Government of India level the Zoological Park is under the Ministry of Environment and Forests.

Options :

- 1. ✗ SPQR
- 2. ✗ PQRS
- 3. ✓ QPRS
- 4. ✗ QRSP

General English2

Group Number :	8
Group Id :	998367687
Group Maximum Duration :	0
Group Minimum Duration :	0
Revisit allowed for view? :	No

Revisit allowed for edit? :	No
Break time:	0
Group Marks:	20
Revisit allowed for group Instructions? :	Yes
Maximum Instruction Time:	0
Minimum Instruction Time:	0

General English2

Section Id :	998367808
Section Number :	1
Section type :	Online
Mandatory or Optional:	Mandatory
Number of Questions:	16
Number of Questions to be attempted:	16
Section Marks:	20
Display Number Panel:	Yes
Group All Questions:	No

Sub-Section Number:	1
Sub-Section Id:	9983671026
Question Shuffling Allowed :	Yes

Question Number : 141 Question Id : 99836719051 Question Type : MCQ Option Shuffling : Yes Display Question Number : Yes
Single Line Question Option : No Option Orientation : Vertical

Correct Marks : 1 Wrong Marks : 0.25

The sentences of a paragraph have been jumbled up, and labelled P, Q, R and S. Select the option that gives the correct sequence in which these sentences should be rearranged to form a meaningful paragraph.

P:An old man lived in the village. He was one of the most unfortunate people in the world.

Q:The whole village was tired of him; he was always gloomy, he constantly complained and was always in a bad mood.

R:The old Man was happy, he wasn't complaining about anything, smiling and even his face had a glow of happiness!"

S:But one day, when he turned eighty years old, an incredible thing happened.

Options :

1. ✘ PQRS
2. ✘ PSRQ
3. ✘ SRPQ
4. ✔ PQSR

Question Number : 141 Question Id : 99836719051 Question Type : MCQ Option Shuffling : Yes Display Question Number : Yes
Single Line Question Option : No Option Orientation : Vertical

Correct Marks : 1 Wrong Marks : 0.25

The sentences of a paragraph have been jumbled up, and labelled P, Q, R and S. Select the option that gives the correct sequence in which these sentences should be rearranged to form a meaningful paragraph.

P:An old man lived in the village. He was one of the most unfortunate people in the world.

Q:The whole village was tired of him; he was always gloomy, he constantly complained and was always in a bad mood.

R:The old Man was happy, he wasn't complaining about anything, smiling and even his face had a glow of happiness!"

S:But one day, when he turned eighty years old, an incredible thing happened.

Options :

1. ✘ PQRS
2. ✘ PSRQ
3. ✘ SRPQ
4. ✔ PQSR

Question Number : 142 Question Id : 99836719052 Question Type : MCQ Option Shuffling : Yes Display Question Number : Yes
Single Line Question Option : No Option Orientation : Vertical

Correct Marks : 1 Wrong Marks : 0.25

Select the word that is closest in meaning SYNONYM to the word given below.

CRESCENDO

Options :

1. ✘ Alluring
2. ✔ Upsurge
3. ✘ Provincial
4. ✘ Intelligent

Question Number : 142 Question Id : 99836719052 Question Type : MCQ Option Shuffling : Yes Display Question Number : Yes
Single Line Question Option : No Option Orientation : Vertical

Correct Marks : 1 Wrong Marks : 0.25

Select the word that is closest in meaning SYNONYM to the word given below.

CRESCENDO

Options :

1. ✘ Alluring
2. ✔ Upsurge
3. ✘ Provincial
4. ✘ Intelligent

Question Number : 143 Question Id : 99836719053 Question Type : MCQ Option Shuffling : Yes Display Question Number : Yes
Single Line Question Option : No Option Orientation : Vertical

Correct Marks : 1 Wrong Marks : 0.25

Select the correct word HOMONYM that fills in the blank and makes the sentence meaningful.

Rajesh wanted to _____ the blue suit for the wedding.

Options :

1. ✘ ware
2. ✔ wear
3. ✘ where
4. ✘ weir

Question Number : 143 Question Id : 99836719053 Question Type : MCQ Option Shuffling : Yes Display Question Number : Yes
Single Line Question Option : No Option Orientation : Vertical

Correct Marks : 1 Wrong Marks : 0.25

Select the correct word HOMONYM that fills in the blank and makes the sentence meaningful.

Rajesh wanted to _____ the blue suit for the wedding.

Options :

1. ✘ ware

2. ✓ wear
3. ✗ where
4. ✗ weir

Question Number : 144 Question Id : 99836719054 Question Type : MCQ Option Shuffling : Yes Display Question Number : Yes
Single Line Question Option : No Option Orientation : Vertical

Correct Marks : 1 Wrong Marks : 0.25

Select the correct word HOMONYM that fills in the blank and makes the sentence meaningful.

Tejas_____ the races on the sports day.

Options :

1. ✗ one
2. ✗ own
3. ✗ vone
4. ✓ won

Question Number : 144 Question Id : 99836719054 Question Type : MCQ Option Shuffling : Yes Display Question Number : Yes
Single Line Question Option : No Option Orientation : Vertical

Correct Marks : 1 Wrong Marks : 0.25

Select the correct word HOMONYM that fills in the blank and makes the sentence meaningful.

Tejas_____ the races on the sports day.

Options :

1. ✗ one
2. ✗ own
3. ✗ vone
4. ✓ won

Question Number : 145 Question Id : 99836719055 Question Type : MCQ Option Shuffling : Yes Display Question Number : Yes
Single Line Question Option : No Option Orientation : Vertical

Correct Marks : 1 Wrong Marks : 0.25

Select the word that is opposite in meaning ANTONYM to the word given below.

ZENITH

Options :

1. ✗ Peak
2. ✓ Depth
3. ✗ Apogee
4. ✗ Stressed

Question Number : 145 Question Id : 99836719055 Question Type : MCQ Option Shuffling : Yes Display Question Number : Yes
Single Line Question Option : No Option Orientation : Vertical

Correct Marks : 1 Wrong Marks : 0.25

Select the word that is opposite in meaning ANTONYM to the word given below.

ZENITH

Options :

1. ✗ Peak
2. ✓ Depth
3. ✗ Apogee

4. ✘ Stressed

Question Number : 146 Question Id : 99836719056 Question Type : MCQ Option Shuffling : Yes Display Question Number : Yes
Single Line Question Option : No Option Orientation : Vertical

Correct Marks : 1 Wrong Marks : 0.25

Select the word that is closest in meaning SYNONYM to the word given below.

VACILLATE

Options :

1. ✘ Category
2. ✘ Brilliance
3. ✘ Ban
4. ✔ Dither

Question Number : 146 Question Id : 99836719056 Question Type : MCQ Option Shuffling : Yes Display Question Number : Yes
Single Line Question Option : No Option Orientation : Vertical

Correct Marks : 1 Wrong Marks : 0.25

Select the word that is closest in meaning SYNONYM to the word given below.

VACILLATE

Options :

1. ✘ Category
2. ✘ Brilliance
3. ✘ Ban
4. ✔ Dither

Question Number : 147 Question Id : 99836719057 Question Type : MCQ Option Shuffling : Yes Display Question Number : Yes
Single Line Question Option : No Option Orientation : Vertical

Correct Marks : 1 Wrong Marks : 0.25

Four words are given, out of which only one word is spelt correctly. Choose the correctly spelt word.

Options :

1. ✘ Amealearate
2. ✘ Amealeorate
3. ✔ Ameliorate
4. ✘ Amealiarate

Question Number : 147 Question Id : 99836719057 Question Type : MCQ Option Shuffling : Yes Display Question Number : Yes
Single Line Question Option : No Option Orientation : Vertical

Correct Marks : 1 Wrong Marks : 0.25

Four words are given, out of which only one word is spelt correctly. Choose the correctly spelt word.

Options :

1. ✘ Amealearate
2. ✘ Amealeorate
3. ✔ Ameliorate
4. ✘ Amealiarate

Question Number : 148 Question Id : 99836719058 Question Type : MCQ Option Shuffling : Yes Display Question Number : Yes
Single Line Question Option : No Option Orientation : Vertical

Correct Marks : 1 Wrong Marks : 0.25

Four words are given, out of which only one word is spelt correctly. Choose the correctly spelt word.

Options :

1. ✘ Gilotine
2. ✔ Guillotine
3. ✘ Gilutine
4. ✘ Guilitone

Question Number : 148 Question Id : 99836719058 Question Type : MCQ Option Shuffling : Yes Display Question Number : Yes
Single Line Question Option : No Option Orientation : Vertical

Correct Marks : 1 Wrong Marks : 0.25

Four words are given, out of which only one word is spelt correctly. Choose the correctly spelt word.

Options :

1. ✘ Gilotine
2. ✔ Guillotine
3. ✘ Gilutine
4. ✘ Guilitone

Question Number : 149 Question Id : 99836719059 Question Type : MCQ Option Shuffling : Yes Display Question Number : Yes
Single Line Question Option : No Option Orientation : Vertical

Correct Marks : 1 Wrong Marks : 0.25

Four words are given, out of which only one word is spelt correctly. Choose the correctly spelt word.

Options :

1. ✘ interrferance
2. ✘ interferance
3. ✔ interference
4. ✘ interfference

Question Number : 149 Question Id : 99836719059 Question Type : MCQ Option Shuffling : Yes Display Question Number : Yes
Single Line Question Option : No Option Orientation : Vertical

Correct Marks : 1 Wrong Marks : 0.25

Four words are given, out of which only one word is spelt correctly. Choose the correctly spelt word.

Options :

1. ✘ interrferance
2. ✘ interferance
3. ✔ interference
4. ✘ interfference

Question Number : 150 Question Id : 99836719060 Question Type : MCQ Option Shuffling : Yes Display Question Number : Yes
Single Line Question Option : No Option Orientation : Vertical

Correct Marks : 1 Wrong Marks : 0.25

Select the option that best expresses the meaning of the idiom or phrase given below.

'Burn your Bridges'

Options :

1. ✘ When you're really in need, you think of creative solutions to your problems.
2. ✘ Be in a difficult situation from where escape is difficult
3. ✔ Do something that makes it impossible to go back to the earlier position or situation.
4. ✘ Running away from tricky situations

Question Number : 150 Question Id : 99836719060 Question Type : MCQ Option Shuffling : Yes Display Question Number : Yes
Single Line Question Option : No Option Orientation : Vertical

Correct Marks : 1 Wrong Marks : 0.25

Select the option that best expresses the meaning of the idiom or phrase given below.

'Burn your Bridges'

Options :

- ✘ When you're really in need, you think of creative solutions to your problems.
- ✘ Be in a difficult situation from where escape is difficult
- ✔ Do something that makes it impossible to go back to the earlier position or situation.
- ✘ Running away from tricky situations

Question Number : 151 Question Id : 99836719061 Question Type : MCQ Option Shuffling : Yes Display Question Number : Yes
Single Line Question Option : No Option Orientation : Vertical

Correct Marks : 1 Wrong Marks : 0.25

Select the option that best expresses the meaning of the idiom or phrase given below.

'Burn the candle at both ends'

Options :

- ✔ you work excessively hard/keep busy all the time
- ✘ to do something badly or cheaply
- ✘ to feel depressed
- ✘ to judge someone or something based solely on appearance

Question Number : 151 Question Id : 99836719061 Question Type : MCQ Option Shuffling : Yes Display Question Number : Yes
Single Line Question Option : No Option Orientation : Vertical

Correct Marks : 1 Wrong Marks : 0.25

Select the option that best expresses the meaning of the idiom or phrase given below.

'Burn the candle at both ends'

Options :

- ✔ you work excessively hard/keep busy all the time
- ✘ to do something badly or cheaply
- ✘ to feel depressed
- ✘ to judge someone or something based solely on appearance

Question Number : 152 Question Id : 99836719062 Question Type : MCQ Option Shuffling : Yes Display Question Number : Yes
Single Line Question Option : No Option Orientation : Vertical

Correct Marks : 1 Wrong Marks : 0.25

Select the option that best expresses the meaning of the idiom or phrase given below.

'Separate the wheat from the chaff'

Options :

- ✘ when a task/something is very easy
- ✘ to have some secret information about someone
- ✘ People tend to want whatever they don't have.
- ✔ Separate the valuable from the worthless

Question Number : 152 Question Id : 99836719062 Question Type : MCQ Option Shuffling : Yes Display Question Number : Yes
Single Line Question Option : No Option Orientation : Vertical

Correct Marks : 1 Wrong Marks : 0.25

Select the option that best expresses the meaning of the idiom or phrase given below.

'Separate the wheat from the chaff'

Options :

- ✘ when a task/something is very easy
- ✘ to have some secret information about someone
- ✘ People tend to want whatever they don't have.
- ✔ Separate the valuable from the worthless

Question Number : 153 Question Id : 99836719063 Question Type : MCQ Option Shuffling : Yes Display Question Number : Yes
Single Line Question Option : No Option Orientation : Vertical

Correct Marks : 1 Wrong Marks : 0.25

Select the most appropriate 'one word ' for the expressions given below.

To interpret or assign meaning

Options :

- ✘ Cajole
- ✘ Pluviophile
- ✘ Juvenile
- ✔ Construe

Question Number : 153 Question Id : 99836719063 Question Type : MCQ Option Shuffling : Yes Display Question Number : Yes
Single Line Question Option : No Option Orientation : Vertical

Correct Marks : 1 Wrong Marks : 0.25

Select the most appropriate 'one word ' for the expressions given below.

To interpret or assign meaning

Options :

- ✘ Cajole
- ✘ Pluviophile
- ✘ Juvenile
- ✔ Construe

Question Number : 154 Question Id : 99836719064 Question Type : MCQ Option Shuffling : Yes Display Question Number : Yes
Single Line Question Option : No Option Orientation : Vertical

Correct Marks : 1 Wrong Marks : 0.25

Select the most appropriate 'one word ' for the expressions given below.

Something that is of daily occurrence

Options :

- ✔ Quotidian
- ✘ Epoch
- ✘ Juvenile
- ✘ Beguile

Question Number : 154 Question Id : 99836719064 Question Type : MCQ Option Shuffling : Yes Display Question Number : Yes
Single Line Question Option : No Option Orientation : Vertical

Correct Marks : 1 Wrong Marks : 0.25

Select the most appropriate 'one word ' for the expressions given below.

Something that is of daily occurrence

Options :

1. ✓ Quotidian
2. ✗ Epoch
3. ✗ Juvenile
4. ✗ Beguile

Question Number : 155 Question Id : 99836719065 Question Type : MCQ Option Shuffling : Yes Display Question Number : Yes
Single Line Question Option : No Option Orientation : Vertical

Correct Marks : 1 Wrong Marks : 0.25

Select the most appropriate 'one word ' for the expressions given below.

To distorting facts or imitation

Options :

1. ✗ Ethereal
2. ✗ Delirious
3. ✓ Travesty
4. ✗ Reticent

Question Number : 155 Question Id : 99836719065 Question Type : MCQ Option Shuffling : Yes Display Question Number : Yes
Single Line Question Option : No Option Orientation : Vertical

Correct Marks : 1 Wrong Marks : 0.25

Select the most appropriate 'one word ' for the expressions given below.

Distorting facts or imitation

Options :

1. ✗ Ethereal
2. ✗ Delirious
3. ✓ Travesty
4. ✗ Reticent

Sub-Section Number:	2
Sub-Section Id:	9983671027
Question Shuffling Allowed :	Yes

Question Id : 99836719066 Question Type : COMPREHENSION Sub Question Shuffling Allowed : Yes Group Comprehension
Questions : No

Question Numbers : (156 to 160)

Question Label : Comprehension

Read this passage carefully and choose the best answer from each of the four options.

Mawlynnong is a village in the East Khasi Hills district of the Meghalaya state in north east India. It is notable for its cleanliness. Mawlynnong is located 90 km from Shillong, along the India–Bangladesh border. As of 2014, there are about 95 households in Mawlynnong. The literacy rate is 90 percent. Agriculture is the chief occupation of the local population, with betel nut being the main crop. The people residing in the community are Khasi people. As is the tradition of the Khasi people, Matrilineal Society is the crux of Mawlynnong i.e. property and wealth are passed from the mother to the youngest of her daughters, who also keeps the mother's surname.

Mawlynnong is known for its cleanliness. The waste is collected in the dustbins made of bamboo, directed to a pit and then used as manure. A community initiative mandates that all residents should participate in cleaning up the village. Smoking and use of polythene is banned while rainwater harvesting is encouraged. The travel magazine Discover India declared the village as the cleanest in Asia in 2003, and the cleanest in India in 2005. This reputation has boosted local tourism. In 2017 it was reported that, according to the village headman, incomes had increased by 60 percent due to increased tourism.

Sub questions

Question Number : 156 Question Id : 99836719067 Question Type : MCQ Option Shuffling : Yes Display Question Number : Yes
Single Line Question Option : No Option Orientation : Vertical

Correct Marks : 1 Wrong Marks : 0.25

According to the passage, which among these is a tradition of the Khasi people?

Options :

1. ✓ Matrilineal Society
2. ✗ Patriachal Society
3. ✗ Filial Society
4. ✗ Unilateral Society

Question Number : 157 Question Id : 99836719068 Question Type : MCQ Option Shuffling : Yes Display Question Number : Yes
Single Line Question Option : No Option Orientation : Vertical

Correct Marks : 1 Wrong Marks : 0.25

According to the passage, which activity is banned in Mawlynnong?

Options :

1. ✗ Drinking Alcohol
2. ✗ Driving at high speeds
3. ✗ Rain water Harvesting
4. ✓ Smoking

Question Number : 158 Question Id : 99836719069 Question Type : MCQ Option Shuffling : Yes Display Question Number : Yes
Single Line Question Option : No Option Orientation : Vertical

Correct Marks : 1 Wrong Marks : 0.25

According to the passage, what does the community initiative mandate state?

Options :

1. ✗ all male residents should marry the youngest daughter of the mother's closest relative
2. ✓ all residents should participate in cleaning up the village
3. ✗ all residents should participate in tourism activities in the village
4. ✗ all residents should pose along with tourists when they visit the village

Question Number : 159 Question Id : 99836719070 Question Type : MCQ Option Shuffling : Yes Display Question Number : Yes
Single Line Question Option : No Option Orientation : Vertical

Correct Marks : 1 Wrong Marks : 0.25

According to the passage, which magazine declared Mawlynnong the cleanest in India?

Options :

1. ✓ Discover India
2. ✗ Discovery
3. ✗ National Geographic
4. ✗ Travel & Discovery

Question Number : 160 Question Id : 99836719071 Question Type : MCQ Option Shuffling : Yes Display Question Number : Yes
Single Line Question Option : No Option Orientation : Vertical

Correct Marks : 1 Wrong Marks : 0.25

According to the passage, which is the main occupation and main crop of Mawlynnong?

Options :

1. ✗ Agriculture, Hazelnut
2. ✗ Tourism, Bamboo
3. ✓ Agriculture, Betel nut
4. ✗ Agriculture, Bamboo

Question Id : 99836719066 Question Type : COMPREHENSION Sub Question Shuffling Allowed : Yes Group Comprehension
Questions : No

Question Numbers : (156 to 160)

Question Label : Comprehension

Read this passage carefully and choose the best answer from each of the four options.

Mawlynnong is a village in the East Khasi Hills district of the Meghalaya state in north east India. It is notable for its cleanliness. Mawlynnong is located 90 km from Shillong, along the India-Bangladesh border.

As of 2014, there are about 95 households in Mawlynnong. The literacy rate is 90 प्रतिशत. Agriculture is the chief occupation of the local population, with betel nut being the main crop. The people residing in the community are Khasi people. As is the tradition of the Khasi people, Matrilineal Society is the crux of Mawlynnong i.e. property and wealth are passed from the mother to the youngest of her daughters, who also keeps the mother's surname.

Mawlynnong is known for its cleanliness. The waste is collected in the dustbins made of bamboo, directed to a pit and then used as manure. A community initiative mandates that all residents should participate in cleaning up the village. Smoking and use of polythene is banned while rainwater harvesting is encouraged. The travel magazine Discover India declared the village as the cleanest in Asia in 2003, and the cleanest in India in 2005. This reputation has boosted local tourism. In 2017 it was reported that, according to the village headman, incomes had increased by 60 percent due to increased tourism.

Sub questions

Question Number : 156 Question Id : 99836719067 Question Type : MCQ Option Shuffling : Yes Display Question Number : Yes
Single Line Question Option : No Option Orientation : Vertical

Correct Marks : 1 Wrong Marks : 0.25

According to the passage, which among these is a tradition of the Khasi people?

Options :

1. ✓ Matrilineal Society
2. ✗ Patriachal Society
3. ✗ Filial Society
4. ✗ Unilateral Society

Question Number : 157 Question Id : 99836719068 Question Type : MCQ Option Shuffling : Yes Display Question Number : Yes
Single Line Question Option : No Option Orientation : Vertical

Correct Marks : 1 Wrong Marks : 0.25

According to the passage, which activity is banned in Mawlynnong?

Options :

1. ✗ Drinking Alcohol

2. ✘ Driving at high speeds
3. ✘ Rain water Harvesting
4. ✔ Smoking

Question Number : 158 Question Id : 99836719069 Question Type : MCQ Option Shuffling : Yes Display Question Number : Yes
Single Line Question Option : No Option Orientation : Vertical

Correct Marks : 1 Wrong Marks : 0.25

According to the passage, what does the community initiative mandate state?

Options :

1. ✘ all male residents should marry the youngest daughter of the mother's closest relative
2. ✔ all residents should participate in cleaning up the village
3. ✘ all residents should participate in tourism activities in the village
4. ✘ all residents should pose along with tourists when they visit the village

Question Number : 159 Question Id : 99836719070 Question Type : MCQ Option Shuffling : Yes Display Question Number : Yes
Single Line Question Option : No Option Orientation : Vertical

Correct Marks : 1 Wrong Marks : 0.25

According to the passage, which magazine declared Mawlynnong the cleanest in India?

Options :

1. ✔ Discover India
2. ✘ Discovery
3. ✘ National Geographic
4. ✘ Travel & Discovery

Question Number : 160 Question Id : 99836719071 Question Type : MCQ Option Shuffling : Yes Display Question Number : Yes
Single Line Question Option : No Option Orientation : Vertical

Correct Marks : 1 Wrong Marks : 0.25

According to the passage, which is the main occupation and main crop of Mawlynnong?

Options :

1. ✘ Agriculture, Hazelnut
2. ✘ Tourism, Bamboo
3. ✔ Agriculture, Betel nut
4. ✘ Agriculture, Bamboo

General Hindi 1

Group Number :	9
Group Id :	998367688
Group Maximum Duration :	0
Group Minimum Duration :	0
Revisit allowed for view? :	No
Revisit allowed for edit? :	No
Break time:	0
Group Marks:	20
Revisit allowed for group Instructions? :	Yes
Maximum Instruction Time:	0
Minimum Instruction Time:	0

General Hindi 1

Section Id :	998367809
Section Number :	1
Section type :	Online
Mandatory or Optional:	Mandatory
Number of Questions:	20
Number of Questions to be attempted:	20
Section Marks:	20
Display Number Panel:	Yes
Group All Questions:	No

Sub-Section Number:	1
Sub-Section Id:	9983671028
Question Shuffling Allowed :	Yes

Question Number : 161 Question Id : 99836719072 Question Type : MCQ Option Shuffling : Yes Display Question Number : Yes
Single Line Question Option : No Option Orientation : Vertical

Correct Marks : 1 Wrong Marks : 0.25

निम्नलिखित प्रश्न में, चार विकल्पों में से, उस विकल्प का चयन करें जो दिए गए शब्द का सही तत्सम रूप वाला विकल्प हो।

ईख

Options :

1. ✘ दधि
2. ✘ पक्ष
3. ✘ अक्षि
4. ✔ इक्षु

Question Number : 161 Question Id : 99836719072 Question Type : MCQ Option Shuffling : Yes Display Question Number : Yes
Single Line Question Option : No Option Orientation : Vertical

Correct Marks : 1 Wrong Marks : 0.25

निम्नलिखित प्रश्न में, चार विकल्पों में से, उस विकल्प का चयन करें जो दिए गए शब्द का सही तत्सम रूप वाला विकल्प हो।

ईख

Options :

1. ✘ दधि
2. ✘ पक्ष
3. ✘ अक्षि
4. ✔ इक्षु

Question Number : 162 Question Id : 99836719073 Question Type : MCQ Option Shuffling : Yes Display Question Number : Yes
Single Line Question Option : No Option Orientation : Vertical

Correct Marks : 1 Wrong Marks : 0.25

निम्नलिखित प्रश्न में, चार विकल्पों में से, उस विकल्प का चयन करें जो दिए गए शब्द का सही तद्भव रूप वाला विकल्प हो।

उत्र

Options :

1. ✘ चैत
2. ✘ छाँव
3. ✔ छाता
4. ✘ चाँद

Question Number : 162 Question Id : 99836719073 Question Type : MCQ Option Shuffling : Yes Display Question Number : Yes
Single Line Question Option : No Option Orientation : Vertical

Correct Marks : 1 Wrong Marks : 0.25

निम्नलिखित प्रश्न में, चार विकल्पों में से, उस विकल्प का चयन करें जो दिए गए शब्द का सही तद्भव रूप वाला विकल्प हो।

छत्र

Options :

1. ✘ चैत
2. ✘ छाँव
3. ✔ छाता
4. ✘ चाँद

Question Number : 163 Question Id : 99836719074 Question Type : MCQ Option Shuffling : Yes Display Question Number : Yes
Single Line Question Option : No Option Orientation : Vertical

Correct Marks : 1 Wrong Marks : 0.25

निम्नलिखित प्रश्न में, चार विकल्पों में से, उस विकल्प का चयन करें जो भाववाचक संज्ञा का सही विकल्प है।

Options :

1. ✘ निज
2. ✔ परायापन
3. ✘ बझा
4. ✘ कला

Question Number : 163 Question Id : 99836719074 Question Type : MCQ Option Shuffling : Yes Display Question Number : Yes
Single Line Question Option : No Option Orientation : Vertical

Correct Marks : 1 Wrong Marks : 0.25

निम्नलिखित प्रश्न में, चार विकल्पों में से, उस विकल्प का चयन करें जो भाववाचक संज्ञा का सही विकल्प है।

Options :

1. ✘ निज
2. ✔ परायापन
3. ✘ बझा
4. ✘ कला

Question Number : 164 Question Id : 99836719075 Question Type : MCQ Option Shuffling : Yes Display Question Number : Yes
Single Line Question Option : No Option Orientation : Vertical

Correct Marks : 1 Wrong Marks : 0.25

निम्नलिखित प्रश्न में, चार विकल्पों में से, उस विकल्प का चयन करें जो कोष्ठक में दिए गए शब्द के अनुसार सर्वनाम के भेद का सही विकल्प हो।

मेरी माता जी अपना सारा काम (स्वयं) करती हैं।

Options :

1. ✔ निजवाचक सर्वनाम
2. ✘ अनिश्चयवाचक सर्वनाम
3. ✘ प्रश्नवाचक सर्वनाम
4. ✘ निश्चय वाचक सर्वनाम

Question Number : 164 Question Id : 99836719075 Question Type : MCQ Option Shuffling : Yes Display Question Number : Yes
Single Line Question Option : No Option Orientation : Vertical

Correct Marks : 1 Wrong Marks : 0.25

निम्नलिखित प्रश्न में, चार विकल्पों में से, उस विकल्प का चयन करें जो कोष्ठक में दिए गए शब्द के अनुसार सर्वनाम के भेद का सही विकल्प हो।

मेरी माता जी अपना सारा काम (स्वयं) करती हैं।

Options :

1. ✓ निजवाचक सर्वनाम
2. ✗ अनिश्चयवाचक सर्वनाम
3. ✗ प्रश्नवाचक सर्वनाम
4. ✗ निश्चय वाचक सर्वनाम

Question Number : 165 Question Id : 99836719076 Question Type : MCQ Option Shuffling : Yes Display Question Number : Yes
Single Line Question Option : No Option Orientation : Vertical

Correct Marks : 1 Wrong Marks : 0.25

निम्नलिखित प्रश्न में, चार विकल्पों में से, उस विकल्प का चयन करें जो कोष्ठक में दिए गए शब्द के अनुसार विशेषण के भेद वाला विकल्प हो।

दोनों भाई (मिलनसार) हैं।

Options :

1. ✗ संख्यावाचक
2. ✗ परिमाणवाचक
3. ✓ गुणवाचक
4. ✗ सार्वनामिक

Question Number : 165 Question Id : 99836719076 Question Type : MCQ Option Shuffling : Yes Display Question Number : Yes
Single Line Question Option : No Option Orientation : Vertical

Correct Marks : 1 Wrong Marks : 0.25

निम्नलिखित प्रश्न में, चार विकल्पों में से, उस विकल्प का चयन करें जो कोष्ठक में दिए गए शब्द के अनुसार विशेषण के भेद वाला विकल्प हो।

दोनों भाई (मिलनसार) हैं।

Options :

1. ✗ संख्यावाचक
2. ✗ परिमाणवाचक
3. ✓ गुणवाचक
4. ✗ सार्वनामिक

Question Number : 166 Question Id : 99836719077 Question Type : MCQ Option Shuffling : Yes Display Question Number : Yes
Single Line Question Option : No Option Orientation : Vertical

Correct Marks : 1 Wrong Marks : 0.25

निम्नलिखित प्रश्न में, चार विकल्पों में से, उस विकल्प का चयन करें जो दिए गए शब्द के पर्यायवाची शब्द का सही विकल्प नहीं है।

अमृत

Options :

1. ✗ पीयूष
2. ✗ अमी
3. ✓ पुराना
4. ✗ सोम

Question Number : 166 Question Id : 99836719077 Question Type : MCQ Option Shuffling : Yes Display Question Number : Yes
Single Line Question Option : No Option Orientation : Vertical

Correct Marks : 1 Wrong Marks : 0.25

निम्नलिखित प्रश्न में, चार विकल्पों में से, उस विकल्प का चयन करें जो दिए गए शब्द के पर्यायवाची शब्द का सही विकल्प नहीं है।

अमृत

Options :

1. ✘ पीयूष
2. ✘ अमी
3. ✔ पुराना
4. ✘ सोम

Question Number : 167 Question Id : 99836719078 Question Type : MCQ Option Shuffling : Yes Display Question Number : Yes
Single Line Question Option : No Option Orientation : Vertical

Correct Marks : 1 Wrong Marks : 0.25

निम्नलिखित प्रश्न में, चार विकल्पों में से, उस विकल्प का चयन करें जो दिए गए शब्द के पर्यायवाची शब्द का सही विकल्प नहीं है।

लहर

Options :

1. ✔ समर
2. ✘ उर्मि
3. ✘ वीचि
4. ✘ हिलोर

Question Number : 167 Question Id : 99836719078 Question Type : MCQ Option Shuffling : Yes Display Question Number : Yes
Single Line Question Option : No Option Orientation : Vertical

Correct Marks : 1 Wrong Marks : 0.25

निम्नलिखित प्रश्न में, चार विकल्पों में से, उस विकल्प का चयन करें जो दिए गए शब्द के पर्यायवाची शब्द का सही विकल्प नहीं है।

लहर

Options :

1. ✔ समर
2. ✘ उर्मि
3. ✘ वीचि
4. ✘ हिलोर

Question Number : 168 Question Id : 99836719079 Question Type : MCQ Option Shuffling : Yes Display Question Number : Yes
Single Line Question Option : No Option Orientation : Vertical

Correct Marks : 1 Wrong Marks : 0.25

निम्नलिखित प्रश्न में, चार विकल्पों में से, उस विकल्प का चयन करें जो दिए गए शब्द के विलोम शब्द का सही विकल्प है।

सम्मुख

Options :

1. ✘ सामिष
2. ✔ विमुख
3. ✘ समीप
4. ✘ साथ

Question Number : 168 Question Id : 99836719079 Question Type : MCQ Option Shuffling : Yes Display Question Number : Yes
Single Line Question Option : No Option Orientation : Vertical

Correct Marks : 1 Wrong Marks : 0.25

निम्नलिखित प्रश्न में, चार विकल्पों में से, उस विकल्प का चयन करें जो दिए गए शब्द के विलोम शब्द का सही विकल्प है।

सम्मुख

Options :

1. ✘ सामिष

2. ✓ विमुख

3. ✗ समीप

4. ✗ साथ

Question Number : 169 Question Id : 99836719080 Question Type : MCQ Option Shuffling : Yes Display Question Number : Yes
Single Line Question Option : No Option Orientation : Vertical

Correct Marks : 1 Wrong Marks : 0.25

निम्नलिखित प्रश्न में, चार विकल्पों में से, उस विकल्प का चयन करें जो दिए गए शब्द के विलोम शब्द का सही विकल्प है।

सकारण

Options :

1. ✗ संकल्प

2. ✗ निराकरण

3. ✗ सत्कार

4. ✓ अकारण

Question Number : 169 Question Id : 99836719080 Question Type : MCQ Option Shuffling : Yes Display Question Number : Yes
Single Line Question Option : No Option Orientation : Vertical

Correct Marks : 1 Wrong Marks : 0.25

निम्नलिखित प्रश्न में, चार विकल्पों में से, उस विकल्प का चयन करें जो दिए गए शब्द के विलोम शब्द का सही विकल्प है।

सकारण

Options :

1. ✗ संकल्प

2. ✗ निराकरण

3. ✗ सत्कार

4. ✓ अकारण

Question Number : 170 Question Id : 99836719081 Question Type : MCQ Option Shuffling : Yes Display Question Number : Yes
Single Line Question Option : No Option Orientation : Vertical

Correct Marks : 1 Wrong Marks : 0.25

निम्नलिखित प्रश्न में, चार विकल्पों में से, उस सही विकल्प का चयन करें जो दिए गए शब्द-युग्म के अर्थ का सही विकल्प हो।

लब्ध-लुब्ध

Options :

1. ✗ आनंद और आसक्त

2. ✗ आनंद और प्राप्त

3. ✓ प्राप्त और आसक्त

4. ✗ विचित्र और आसक्त

Question Number : 170 Question Id : 99836719081 Question Type : MCQ Option Shuffling : Yes Display Question Number : Yes
Single Line Question Option : No Option Orientation : Vertical

Correct Marks : 1 Wrong Marks : 0.25

निम्नलिखित प्रश्न में, चार विकल्पों में से, उस सही विकल्प का चयन करें जो दिए गए शब्द-युग्म के अर्थ का सही विकल्प हो।

लब्ध-लुब्ध

Options :

1. ✗ आनंद और आसक्त

2. ✗ आनंद और प्राप्त

3. ✓ प्राप्त और आसक्त

4. ✖ विचित्र और आसक्त

Question Number : 171 Question Id : 99836719082 Question Type : MCQ Option Shuffling : Yes Display Question Number : Yes
Single Line Question Option : No Option Orientation : Vertical

Correct Marks : 1 Wrong Marks : 0.25

निम्नलिखित प्रश्न में, चार विकल्पों में से, उस विकल्प का चयन करें जो दिए गए वाक्यांश के लिए एक शब्द का सही विकल्प है

जो विनम्र न हो

Options :

1. ✖ दुष्कर
2. ✖ दुर्दम्य
3. ✖ दुर्भेद्य
4. ✔ दुर्विनीत

Question Number : 171 Question Id : 99836719082 Question Type : MCQ Option Shuffling : Yes Display Question Number : Yes
Single Line Question Option : No Option Orientation : Vertical

Correct Marks : 1 Wrong Marks : 0.25

निम्नलिखित प्रश्न में, चार विकल्पों में से, उस विकल्प का चयन करें जो दिए गए वाक्यांश के लिए एक शब्द का सही विकल्प है

जो विनम्र न हो

Options :

1. ✖ दुष्कर
2. ✖ दुर्दम्य
3. ✖ दुर्भेद्य
4. ✔ दुर्विनीत

Question Number : 172 Question Id : 99836719083 Question Type : MCQ Option Shuffling : Yes Display Question Number : Yes
Single Line Question Option : No Option Orientation : Vertical

Correct Marks : 1 Wrong Marks : 0.25

निम्नलिखित प्रश्न में, चार विकल्पों में से, उस सही विकल्प का चयन करें जो रिक्त स्थान के लिए उचित विकल्प हो।

किसी भी कार्य को करने का निश्चित _____ होता है।

Options :

1. ✖ कम
2. ✖ करम
3. ✖ कर्म
4. ✔ क्रम

Question Number : 172 Question Id : 99836719083 Question Type : MCQ Option Shuffling : Yes Display Question Number : Yes
Single Line Question Option : No Option Orientation : Vertical

Correct Marks : 1 Wrong Marks : 0.25

निम्नलिखित प्रश्न में, चार विकल्पों में से, उस सही विकल्प का चयन करें जो रिक्त स्थान के लिए उचित विकल्प हो।

किसी भी कार्य को करने का निश्चित _____ होता है।

Options :

1. ✖ कम
2. ✖ करम
3. ✖ कर्म
4. ✔ क्रम

Question Number : 173 Question Id : 99836719084 Question Type : MCQ Option Shuffling : Yes Display Question Number : Yes
Single Line Question Option : No Option Orientation : Vertical

Correct Marks : 1 Wrong Marks : 0.25

निम्नलिखित प्रश्न में, चार विकल्पों में से, उस विकल्प का चयन करें जो दिए गए शब्द के समानार्थी शब्द का विकल्प नहीं है।

बाण

Options :

1. ✓ महि
2. ✗ इषु
3. ✗ आशुग
4. ✗ सायक

Question Number : 173 Question Id : 99836719084 Question Type : MCQ Option Shuffling : Yes Display Question Number : Yes
Single Line Question Option : No Option Orientation : Vertical

Correct Marks : 1 Wrong Marks : 0.25

निम्नलिखित प्रश्न में, चार विकल्पों में से, उस विकल्प का चयन करें जो दिए गए शब्द के समानार्थी शब्द का विकल्प नहीं है।

बाण

Options :

1. ✓ महि
2. ✗ इषु
3. ✗ आशुग
4. ✗ सायक

Question Number : 174 Question Id : 99836719085 Question Type : MCQ Option Shuffling : Yes Display Question Number : Yes
Single Line Question Option : No Option Orientation : Vertical

Correct Marks : 1 Wrong Marks : 0.25

निम्नलिखित प्रश्न में, चार विकल्पों में से, उस सही विकल्प का चयन करें जो रिक्त स्थान के लिए उपयुक्त शब्द का सही विकल्प है।

मैं _____ पर श्रद्धा रखता हूँ।

Options :

1. ✗ तेरे
2. ✗ तेको
3. ✓ आप
4. ✗ तुमका

Question Number : 174 Question Id : 99836719085 Question Type : MCQ Option Shuffling : Yes Display Question Number : Yes
Single Line Question Option : No Option Orientation : Vertical

Correct Marks : 1 Wrong Marks : 0.25

निम्नलिखित प्रश्न में, चार विकल्पों में से, उस सही विकल्प का चयन करें जो रिक्त स्थान के लिए उपयुक्त शब्द का सही विकल्प है।

मैं _____ पर श्रद्धा रखता हूँ।

Options :

1. ✗ तेरे
2. ✗ तेको
3. ✓ आप
4. ✗ तुमका

Question Number : 175 Question Id : 99836719086 Question Type : MCQ Option Shuffling : Yes Display Question Number : Yes
Single Line Question Option : No Option Orientation : Vertical

Correct Marks : 1 Wrong Marks : 0.25

निम्नलिखित प्रश्न में, चार विकल्पों में से, उस विकल्प का चयन करें जो शुद्ध शब्द का सही विकल्प है।

Options :

1. ✘ वयावाहर्कुशालाता
2. ✔ व्यवहारकुशलता
3. ✘ व्यवहकुशलता
4. ✘ व्यवहर्कुसला

Question Number : 175 Question Id : 99836719086 Question Type : MCQ Option Shuffling : Yes Display Question Number : Yes
Single Line Question Option : No Option Orientation : Vertical

Correct Marks : 1 Wrong Marks : 0.25

निम्नलिखित प्रश्न में, चार विकल्पों में से, उस विकल्प का चयन करें जो शुद्ध शब्द का सही विकल्प है।

Options :

1. ✘ वयावाहर्कुशालाता
2. ✔ व्यवहारकुशलता
3. ✘ व्यवहकुशलता
4. ✘ व्यवहर्कुसला

Question Number : 176 Question Id : 99836719087 Question Type : MCQ Option Shuffling : Yes Display Question Number : Yes
Single Line Question Option : No Option Orientation : Vertical

Correct Marks : 1 Wrong Marks : 0.25

निम्नलिखित प्रश्न में, चार विकल्पों में से, उस विकल्प का चयन करें जो सदा स्त्रीलिंग वाला शब्द है।

Options :

1. ✘ नीलम
2. ✔ भड़ास
3. ✘ गला
4. ✘ मकान

Question Number : 176 Question Id : 99836719087 Question Type : MCQ Option Shuffling : Yes Display Question Number : Yes
Single Line Question Option : No Option Orientation : Vertical

Correct Marks : 1 Wrong Marks : 0.25

निम्नलिखित प्रश्न में, चार विकल्पों में से, उस विकल्प का चयन करें जो सदा स्त्रीलिंग वाला शब्द है।

Options :

1. ✘ नीलम
2. ✔ भड़ास
3. ✘ गला
4. ✘ मकान

Question Number : 177 Question Id : 99836719088 Question Type : MCQ Option Shuffling : Yes Display Question Number : Yes
Single Line Question Option : No Option Orientation : Vertical

Correct Marks : 1 Wrong Marks : 0.25

निम्नलिखित प्रश्न में, चार विकल्पों में से, उस विकल्प का चयन करें जो दिए गए शब्द का स्त्रीलिंग शब्द वाला विकल्प है।

संन्यासी

Options :

1. ✘ सन्यासिन
2. ✘ संयासीन
3. ✔ संन्यासिनी
4. ✘ संयासाइन

Question Number : 177 Question Id : 99836719088 Question Type : MCQ Option Shuffling : Yes Display Question Number : Yes
Single Line Question Option : No Option Orientation : Vertical

Correct Marks : 1 Wrong Marks : 0.25

निम्नलिखित प्रश्न में, चार विकल्पों में से, उस विकल्प का चयन करें जो दिए गए शब्द का स्त्रीलिंग शब्द वाला विकल्प है।

संन्यासी

Options :

1. ✘ संन्यासिन
2. ✘ संन्यासीन
3. ✔ संन्यासिनी
4. ✘ संन्यासाइन

Question Number : 178 Question Id : 99836719089 Question Type : MCQ Option Shuffling : Yes Display Question Number : Yes
Single Line Question Option : No Option Orientation : Vertical

Correct Marks : 1 Wrong Marks : 0.25

निम्नलिखित प्रश्न में, चार विकल्पों में से, उस विकल्प का चयन करें जो एकवचन शब्द का सबसे अच्छा विकल्प है।

Options :

1. ✘ दर्शन
2. ✘ रस्सियाँ
3. ✘ गौएँ
4. ✔ गाथा

Question Number : 178 Question Id : 99836719089 Question Type : MCQ Option Shuffling : Yes Display Question Number : Yes
Single Line Question Option : No Option Orientation : Vertical

Correct Marks : 1 Wrong Marks : 0.25

निम्नलिखित प्रश्न में, चार विकल्पों में से, उस विकल्प का चयन करें जो एकवचन शब्द का सबसे अच्छा विकल्प है।

Options :

1. ✘ दर्शन
2. ✘ रस्सियाँ
3. ✘ गौएँ
4. ✔ गाथा

Question Number : 179 Question Id : 99836719090 Question Type : MCQ Option Shuffling : Yes Display Question Number : Yes
Single Line Question Option : No Option Orientation : Vertical

Correct Marks : 1 Wrong Marks : 0.25

निम्नलिखित प्रश्न में, चार विकल्पों में से, उस विकल्प का चयन करें जो दिए गए शब्द के बहुवचन शब्द का सबसे अच्छा विकल्प है।

ऋतु

Options :

1. ✔ ऋतुएँ
2. ✘ ऋतुयों
3. ✘ ऋतूओं
4. ✘ रितुओ

Question Number : 179 Question Id : 99836719090 Question Type : MCQ Option Shuffling : Yes Display Question Number : Yes
Single Line Question Option : No Option Orientation : Vertical

Correct Marks : 1 Wrong Marks : 0.25

निम्नलिखित प्रश्न में, चार विकल्पों में से, उस विकल्प का चयन करें जो दिए गए शब्द के बहुवचन शब्द का सबसे अच्छा विकल्प है।

ऋतु

Options :

1. ✓ ऋतुएँ
2. ✗ ऋतुयों
3. ✗ ऋतुओं
4. ✗ रितुओ

Question Number : 180 Question Id : 99836719091 Question Type : MCQ Option Shuffling : Yes Display Question Number : Yes
Single Line Question Option : No Option Orientation : Vertical

Correct Marks : 1 Wrong Marks : 0.25

निम्नलिखित प्रश्न में, चार विकल्पों में से, उस विकल्प का चयन करें जो कोष्ठक में दिए गए शब्द के अनुसार मध्यम पुरुषवाचक सर्वनाम का सही विकल्प हो।

Options :

1. ✗ (मैंने) अपने सभी दोस्तों को बुलाया है।
2. ✗ (वह) तुम्हारी बहुत तारीफ कर रहा था।
3. ✓ कार्यक्रम में सहभागी होने के लिए (आप) लोगों का बहुत-बहुत धन्यवाद।
4. ✗ (हम) आज कहीं भी नहीं जा सकते।

Question Number : 180 Question Id : 99836719091 Question Type : MCQ Option Shuffling : Yes Display Question Number : Yes
Single Line Question Option : No Option Orientation : Vertical

Correct Marks : 1 Wrong Marks : 0.25

निम्नलिखित प्रश्न में, चार विकल्पों में से, उस विकल्प का चयन करें जो कोष्ठक में दिए गए शब्द के अनुसार मध्यम पुरुषवाचक सर्वनाम का सही विकल्प हो।

Options :

1. ✗ (मैंने) अपने सभी दोस्तों को बुलाया है।
2. ✗ (वह) तुम्हारी बहुत तारीफ कर रहा था।
3. ✓ कार्यक्रम में सहभागी होने के लिए (आप) लोगों का बहुत-बहुत धन्यवाद।
4. ✗ (हम) आज कहीं भी नहीं जा सकते।

General Hindi2

Group Number :	10
Group Id :	998367689
Group Maximum Duration :	0
Group Minimum Duration :	120
Revisit allowed for view? :	No
Revisit allowed for edit? :	No
Break time:	0
Group Marks:	20
Revisit allowed for group Instructions? :	Yes
Maximum Instruction Time:	0
Minimum Instruction Time:	0

General Hindi2

Section Id :	998367810
Section Number :	1
Section type :	Online
Mandatory or Optional:	Mandatory

Number of Questions:	16
Number of Questions to be attempted:	16
Section Marks:	20
Display Number Panel:	Yes
Group All Questions:	No

Sub-Section Number:	1
Sub-Section Id:	9983671029
Question Shuffling Allowed :	Yes

Question Number : 181 Question Id : 99836719092 Question Type : MCQ Option Shuffling : Yes Display Question Number : Yes
Single Line Question Option : No Option Orientation : Vertical

Correct Marks : 1 Wrong Marks : 0.25

निम्नलिखित प्रश्न में, चार विकल्पों में से, उस विकल्प का चयन करें जो दिए गए वाक्य के काल के भेद का सही विकल्प हो।

बच्चे कहानी लिख रहे हैं।

Options :

1. ✘ हेतुहेतु मद् भूतकाल
2. ✔ अपूर्ण वर्तमानकाल
3. ✘ अपूर्ण भूतकाल
4. ✘ हेतुहेतुमद् भविष्यत् काल

Question Number : 181 Question Id : 99836719092 Question Type : MCQ Option Shuffling : Yes Display Question Number : Yes
Single Line Question Option : No Option Orientation : Vertical

Correct Marks : 1 Wrong Marks : 0.25

निम्नलिखित प्रश्न में, चार विकल्पों में से, उस विकल्प का चयन करें जो दिए गए वाक्य के काल के भेद का सही विकल्प हो।

बच्चे कहानी लिख रहे हैं।

Options :

1. ✘ हेतुहेतु मद् भूतकाल
2. ✔ अपूर्ण वर्तमानकाल
3. ✘ अपूर्ण भूतकाल
4. ✘ हेतुहेतुमद् भविष्यत् काल

Question Number : 182 Question Id : 99836719093 Question Type : MCQ Option Shuffling : Yes Display Question Number : Yes
Single Line Question Option : No Option Orientation : Vertical

Correct Marks : 1 Wrong Marks : 0.25

निम्नलिखित प्रश्न में, चार विकल्पों में से, उस विकल्प का चयन करें जो दिए गए वाक्य के लिए वृत्ति के भेद का सबसे अच्छा विकल्प है।

वह दीवार के ऊपर चढ़ गया।

Options :

1. ✘ विध्यर्थ
2. ✘ संकेतार्थ
3. ✘ संदेहार्थ
4. ✔ निश्चयार्थ

Question Number : 182 Question Id : 99836719093 Question Type : MCQ Option Shuffling : Yes Display Question Number : Yes
Single Line Question Option : No Option Orientation : Vertical

Correct Marks : 1 Wrong Marks : 0.25

निम्नलिखित प्रश्न में, चार विकल्पों में से, उस विकल्प का चयन करें जो दिए गए वाक्य के लिए वृत्ति के भेद का सबसे अच्छा विकल्प है।

वह दीवार के ऊपर चढ़ गया।

Options :

1. ✘ विध्यर्थ
2. ✘ संकेतार्थ
3. ✘ संदेहार्थ
4. ✔ निश्चयार्थ

Question Number : 183 Question Id : 99836719094 Question Type : MCQ Option Shuffling : Yes Display Question Number : Yes
Single Line Question Option : No Option Orientation : Vertical

Correct Marks : 1 Wrong Marks : 0.25

निम्नलिखित प्रश्न में, चार विकल्पों में से, उस विकल्प का चयन करें जो दिए गए वाक्य के लिए पक्ष के भेद का सबसे अच्छा विकल्प है।

भूख बढ़ती जा रही है।

Options :

1. ✘ सातप्यबोधक
2. ✘ नित्यताद्योतक
3. ✔ प्रगतिद्योतक
4. ✘ आरंभद्योतक

Question Number : 183 Question Id : 99836719094 Question Type : MCQ Option Shuffling : Yes Display Question Number : Yes
Single Line Question Option : No Option Orientation : Vertical

Correct Marks : 1 Wrong Marks : 0.25

निम्नलिखित प्रश्न में, चार विकल्पों में से, उस विकल्प का चयन करें जो दिए गए वाक्य के लिए पक्ष के भेद का सबसे अच्छा विकल्प है।

भूख बढ़ती जा रही है।

Options :

1. ✘ सातप्यबोधक
2. ✘ नित्यताद्योतक
3. ✔ प्रगतिद्योतक
4. ✘ आरंभद्योतक

Question Number : 184 Question Id : 99836719095 Question Type : MCQ Option Shuffling : Yes Display Question Number : Yes
Single Line Question Option : No Option Orientation : Vertical

Correct Marks : 1 Wrong Marks : 0.25

निम्न विकल्पों में से निर्देशानुसार वाच्य परिवर्तन का विकल्प चुनिए।

नानी ने कहानी सुनाई (कर्मवाच्य)

Options :

1. ✘ कहानी को नानी ने सुनाया
2. ✔ नानी के द्वारा कहानी सुनाई गई
3. ✘ नानी कहानी सुनाई
4. ✘ नानी कहानी सुनती है

Question Number : 184 Question Id : 99836719095 Question Type : MCQ Option Shuffling : Yes Display Question Number : Yes
Single Line Question Option : No Option Orientation : Vertical

Correct Marks : 1 Wrong Marks : 0.25

निम्न विकल्पों में से निर्देशानुसार वाक्य परिवर्तन का विकल्प चुनिए।

नानी ने कहानी सुनाई (कर्मवाच्य)

Options :

1. ✘ कहानी को नानी ने सुनाया
2. ✔ नानी के द्वारा कहानी सुनाई गई
3. ✘ नानी कहानी सुनाई
4. ✘ नानी कहानी सुनती है

Question Number : 185 Question Id : 99836719096 Question Type : MCQ Option Shuffling : Yes Display Question Number : Yes
Single Line Question Option : No Option Orientation : Vertical

Correct Marks : 1 Wrong Marks : 0.25

निम्नलिखित प्रश्न में, चार विकल्पों में से, उस विकल्प का चयन करें जो सही वाक्य भेद का विकल्प हो।

मुझे खेलने भी जाना है और पढ़ाई भी करना है।

Options :

1. ✘ मिश्र वाक्य
2. ✔ संयुक्त वाक्य
3. ✘ निषेधवाचक वाक्य
4. ✘ सरल वाक्य

Question Number : 185 Question Id : 99836719096 Question Type : MCQ Option Shuffling : Yes Display Question Number : Yes
Single Line Question Option : No Option Orientation : Vertical

Correct Marks : 1 Wrong Marks : 0.25

निम्नलिखित प्रश्न में, चार विकल्पों में से, उस विकल्प का चयन करें जो सही वाक्य भेद का विकल्प हो।

मुझे खेलने भी जाना है और पढ़ाई भी करना है।

Options :

1. ✘ मिश्र वाक्य
2. ✔ संयुक्त वाक्य
3. ✘ निषेधवाचक वाक्य
4. ✘ सरल वाक्य

Question Number : 186 Question Id : 99836719097 Question Type : MCQ Option Shuffling : Yes Display Question Number : Yes
Single Line Question Option : No Option Orientation : Vertical

Correct Marks : 1 Wrong Marks : 0.25

निम्नलिखित प्रश्न में, चार विकल्पों में से, उस विकल्प का चयन करें जो सही वाक्य भेद का विकल्प हो।

कल हम सब साथ चलेंगे।

Options :

1. ✘ संयुक्त वाक्य
2. ✘ मिश्र वाक्य
3. ✘ संदेहवाचक वाक्य
4. ✔ सरल वाक्य

Question Number : 186 Question Id : 99836719097 Question Type : MCQ Option Shuffling : Yes Display Question Number : Yes
Single Line Question Option : No Option Orientation : Vertical

Correct Marks : 1 Wrong Marks : 0.25

निम्नलिखित प्रश्न में, चार विकल्पों में से, उस विकल्प का चयन करें जो सही वाक्य भेद का विकल्प हो

कल हम सब साथ चलेंगे।

Options :

1. ✘ संयुक्त वाक्य
2. ✘ मिश्र वाक्य
3. ✘ संदेहवाचक वाक्य
4. ✔ सरल वाक्य

Question Number : 187 Question Id : 99836719098 Question Type : MCQ Option Shuffling : Yes Display Question Number : Yes
Single Line Question Option : No Option Orientation : Vertical

Correct Marks : 1 Wrong Marks : 0.25

निम्नलिखित प्रश्न में, चार विकल्पों में से, उस विकल्प का चयन करें जो सही वाक्य भेद का विकल्प हो

जिनके पास पैसे नहीं हैं, वे फिर भी अपना गुज़ारा करते हैं।

Options :

1. ✘ विधानवाचक वाक्य
2. ✘ सरल वाक्य
3. ✔ मिश्र वाक्य
4. ✘ संयुक्त वाक्य

Question Number : 187 Question Id : 99836719098 Question Type : MCQ Option Shuffling : Yes Display Question Number : Yes
Single Line Question Option : No Option Orientation : Vertical

Correct Marks : 1 Wrong Marks : 0.25

निम्नलिखित प्रश्न में, चार विकल्पों में से, उस विकल्प का चयन करें जो सही वाक्य भेद का विकल्प हो

जिनके पास पैसे नहीं हैं, वे फिर भी अपना गुज़ारा करते हैं।

Options :

1. ✘ विधानवाचक वाक्य
2. ✘ सरल वाक्य
3. ✔ मिश्र वाक्य
4. ✘ संयुक्त वाक्य

Question Number : 188 Question Id : 99836719099 Question Type : MCQ Option Shuffling : Yes Display Question Number : Yes
Single Line Question Option : No Option Orientation : Vertical

Correct Marks : 1 Wrong Marks : 0.25

निम्नलिखित प्रश्न में, चार विकल्पों में से, उस विकल्प का चयन करें जो विराम चिह्न युक्त वाक्य का सही विकल्प हो

Options :

1. ✘ जहाँ,जहाँ पर वर्षा हुई, वहाँ पानी की मात्रा बढ़ गई।
2. ✘ जहाँ-जहाँ पर वर्षा हुई? वहाँ पानी की मात्रा बढ़ गई।
3. ✘ जहाँ-जहाँ पर वर्षा हुई, "वहाँ पानी की मात्रा बढ़ गई।"
4. ✔ जहाँ-जहाँ पर वर्षा हुई, वहाँ पानी की मात्रा बढ़ गई।

Question Number : 188 Question Id : 99836719099 Question Type : MCQ Option Shuffling : Yes Display Question Number : Yes
Single Line Question Option : No Option Orientation : Vertical

Correct Marks : 1 Wrong Marks : 0.25

निम्नलिखित प्रश्न में, चार विकल्पों में से, उस विकल्प का चयन करें जो विराम चिह्न युक्त वाक्य का सही विकल्प हो

Options :

1. ✘ जहाँ,जहाँ पर वर्षा हुई, वहाँ पानी की मात्रा बढ़ गई।

2. ✘ जहाँ-जहाँ पर वर्षा हुई? वहाँ पानी की मात्रा बढ़ गई
3. ✘ जहाँ-जहाँ पर वर्षा हुई, "वहाँ पानी की मात्रा बढ़ गई"
4. ✔ जहाँ-जहाँ पर वर्षा हुई, वहाँ पानी की मात्रा बढ़ गई

Question Number : 189 Question Id : 99836719100 Question Type : MCQ Option Shuffling : Yes Display Question Number : Yes
Single Line Question Option : No Option Orientation : Vertical

Correct Marks : 1 Wrong Marks : 0.25

निम्नलिखित प्रश्न में, चार विकल्पों में से, उस विकल्प का चयन करें जो विराम चिह्न युक्त वाक्य का सही विकल्प हो

Options :

1. ✔ खूब मन लगाकर पढ़ो; परीक्षा निकट है
2. ✘ खूब मन लगाकर पढ़ो - परीक्षा निकट है
3. ✘ खूब मन लगाकर पढ़ो; 'परीक्षा निकट है'
4. ✘ खूब मन, लगाकर पढ़ो, परीक्षा निकट है

Question Number : 189 Question Id : 99836719100 Question Type : MCQ Option Shuffling : Yes Display Question Number : Yes
Single Line Question Option : No Option Orientation : Vertical

Correct Marks : 1 Wrong Marks : 0.25

निम्नलिखित प्रश्न में, चार विकल्पों में से, उस विकल्प का चयन करें जो विराम चिह्न युक्त वाक्य का सही विकल्प हो

Options :

1. ✔ खूब मन लगाकर पढ़ो; परीक्षा निकट है
2. ✘ खूब मन लगाकर पढ़ो - परीक्षा निकट है
3. ✘ खूब मन लगाकर पढ़ो; 'परीक्षा निकट है'
4. ✘ खूब मन, लगाकर पढ़ो, परीक्षा निकट है

Question Number : 190 Question Id : 99836719101 Question Type : MCQ Option Shuffling : Yes Display Question Number : Yes
Single Line Question Option : No Option Orientation : Vertical

Correct Marks : 1 Wrong Marks : 0.25

निम्नलिखित प्रश्न में, चार विकल्पों में से, उस विकल्प का चयन करें जो दिए गए मुहावरे के लिए सही अर्थ वाला विकल्प है

आकाश-पाताल का अंतर होना

Options :

1. ✘ बहुत परिश्रम करना
2. ✘ दूरी कम करना
3. ✔ अत्यधिक अंतर होना
4. ✘ असंभव कार्य

Question Number : 190 Question Id : 99836719101 Question Type : MCQ Option Shuffling : Yes Display Question Number : Yes
Single Line Question Option : No Option Orientation : Vertical

Correct Marks : 1 Wrong Marks : 0.25

निम्नलिखित प्रश्न में, चार विकल्पों में से, उस विकल्प का चयन करें जो दिए गए मुहावरे के लिए सही अर्थ वाला विकल्प है

आकाश-पाताल का अंतर होना

Options :

1. ✘ बहुत परिश्रम करना
2. ✘ दूरी कम करना
3. ✔ अत्यधिक अंतर होना
4. ✘ असंभव कार्य

Question Number : 191 Question Id : 99836719102 Question Type : MCQ Option Shuffling : Yes Display Question Number : Yes
Single Line Question Option : No Option Orientation : Vertical

Correct Marks : 1 Wrong Marks : 0.25

निम्नलिखित प्रश्न में, चार विकल्पों में से, उस विकल्प का चयन करें जो दिए गए मुहावरे के लिए सही अर्थ वाला विकल्प है।

आव देखा न ताव

Options :

1. ✘ बिना यहाँ-वहाँ देखे
2. ✔ बिना सोचे-समझे
3. ✘ झंझट सिर पर लेना
4. ✘ टालमटोल करना

Question Number : 191 Question Id : 99836719102 Question Type : MCQ Option Shuffling : Yes Display Question Number : Yes
Single Line Question Option : No Option Orientation : Vertical

Correct Marks : 1 Wrong Marks : 0.25

निम्नलिखित प्रश्न में, चार विकल्पों में से, उस विकल्प का चयन करें जो दिए गए मुहावरे के लिए सही अर्थ वाला विकल्प है।

आव देखा न ताव

Options :

1. ✘ बिना यहाँ-वहाँ देखे
2. ✔ बिना सोचे-समझे
3. ✘ झंझट सिर पर लेना
4. ✘ टालमटोल करना

Question Number : 192 Question Id : 99836719103 Question Type : MCQ Option Shuffling : Yes Display Question Number : Yes
Single Line Question Option : No Option Orientation : Vertical

Correct Marks : 1 Wrong Marks : 0.25

निम्नलिखित प्रश्न में, चार विकल्पों में से, उस विकल्प का चयन करें जो दिए गए मुहावरे के लिए सही अर्थ वाला विकल्प है।

उँगली कान में देना

Options :

1. ✘ गुस्सा दिलाना
2. ✘ शोर करना
3. ✘ दोष लगाना
4. ✔ कुछ न सुनना

Question Number : 192 Question Id : 99836719103 Question Type : MCQ Option Shuffling : Yes Display Question Number : Yes
Single Line Question Option : No Option Orientation : Vertical

Correct Marks : 1 Wrong Marks : 0.25

निम्नलिखित प्रश्न में, चार विकल्पों में से, उस विकल्प का चयन करें जो दिए गए मुहावरे के लिए सही अर्थ वाला विकल्प है।

उँगली कान में देना

Options :

1. ✘ गुस्सा दिलाना
2. ✘ शोर करना
3. ✘ दोष लगाना
4. ✔ कुछ न सुनना

Question Number : 193 Question Id : 99836719104 Question Type : MCQ Option Shuffling : Yes Display Question Number : Yes
Single Line Question Option : No Option Orientation : Vertical

Correct Marks : 1 Wrong Marks : 0.25

निम्नलिखित प्रश्न में, चार विकल्पों में से, उस विकल्प का चयन करें जो दी गई लोकोक्ति के लिए सही अर्थ वाला विकल्प है।

तबले की बला बंदर के सिर

Options :

1. ✓ दोष किसी का, भोगे कोई
2. ✗ काम किसी का, करे कोई
3. ✗ किसी और की वस्तु कोई और लेले
4. ✗ अव्यवस्थित होना

Question Number : 193 Question Id : 99836719104 Question Type : MCQ Option Shuffling : Yes Display Question Number : Yes
Single Line Question Option : No Option Orientation : Vertical

Correct Marks : 1 Wrong Marks : 0.25

निम्नलिखित प्रश्न में, चार विकल्पों में से, उस विकल्प का चयन करें जो दी गई लोकोक्ति के लिए सही अर्थ वाला विकल्प है।

तबले की बला बंदर के सिर

Options :

1. ✓ दोष किसी का, भोगे कोई
2. ✗ काम किसी का, करे कोई
3. ✗ किसी और की वस्तु कोई और लेले
4. ✗ अव्यवस्थित होना

Question Number : 194 Question Id : 99836719105 Question Type : MCQ Option Shuffling : Yes Display Question Number : Yes
Single Line Question Option : No Option Orientation : Vertical

Correct Marks : 1 Wrong Marks : 0.25

निम्नलिखित प्रश्न में, चार विकल्पों में से, उस विकल्प का चयन करें जो दी गई लोकोक्ति के लिए सही अर्थ वाला विकल्प है।

तिनके की ओर पहाड़

Options :

1. ✗ दोनों चालाक
2. ✗ छोटा होके बड़ा काम करना
3. ✓ तनिक से भ्रम में छिपा हुआ तथ्य
4. ✗ गलती छिपाना

Question Number : 194 Question Id : 99836719105 Question Type : MCQ Option Shuffling : Yes Display Question Number : Yes
Single Line Question Option : No Option Orientation : Vertical

Correct Marks : 1 Wrong Marks : 0.25

निम्नलिखित प्रश्न में, चार विकल्पों में से, उस विकल्प का चयन करें जो दी गई लोकोक्ति के लिए सही अर्थ वाला विकल्प है।

तिनके की ओर पहाड़

Options :

1. ✗ दोनों चालाक
2. ✗ छोटा होके बड़ा काम करना
3. ✓ तनिक से भ्रम में छिपा हुआ तथ्य
4. ✗ गलती छिपाना

Question Number : 195 Question Id : 99836719106 Question Type : MCQ Option Shuffling : Yes Display Question Number : Yes
Single Line Question Option : No Option Orientation : Vertical

Correct Marks : 1 Wrong Marks : 0.25

निम्नलिखित प्रश्न में, चार विकल्पों में से, उस सही विकल्प का चयन करें जो दी गई लोकोक्ति के लिए सही अर्थ वाला विकल्प है।

दमड़ी की बुढ़िया, टके सिर मुड़ाई

Options :

- ✘ छोटा काम बड़ा नाम
- ✔ भूल से अधिक व्यय होना
- ✘ प्रसिद्धि पाना
- ✘ महंगा सामान

Question Number : 195 Question Id : 99836719106 Question Type : MCQ Option Shuffling : Yes Display Question Number : Yes
Single Line Question Option : No Option Orientation : Vertical

Correct Marks : 1 Wrong Marks : 0.25

निम्नलिखित प्रश्न में, चार विकल्पों में से, उस सही विकल्प का चयन करें जो दी गई लोकोक्ति के लिए सही अर्थ वाला विकल्प है।

दमड़ी की बुढ़िया, टके सिर मुड़ाई

Options :

- ✘ छोटा काम बड़ा नाम
- ✔ भूल से अधिक व्यय होना
- ✘ प्रसिद्धि पाना
- ✘ महंगा सामान

Sub-Section Number: 2
Sub-Section Id: 9983671030
Question Shuffling Allowed : Yes

Question Id : 99836719107 Question Type : COMPREHENSION Sub Question Shuffling Allowed : Yes Group Comprehension
Questions : No

Question Numbers : (196 to 200)

Question Label : Comprehension

नीचे दिए गए गद्यांश को ध्यानपूर्वक और दिए गए प्रश्न के सर्वोत्तम उत्तर चुनें।

तानाशाह जनमानस के जागरण को कोई महत्त्व नहीं देता। उसका निर्माण ऊपर से चलता है, किंतु यह लादा हुआ भार-स्वरूप निर्माण हो जाता है। सच्चा राष्ट्र-निर्माण वह है, जो जनमानस की तैयारी पर आधारित रहता है। योजनाएँ शासन और सत्ता बनाएँ, उन्हें कार्यरूप में परिणत भी करें, किंतु साथ ही उन्हें चिर-स्थायी बनाए रखने एवं पूर्णतया उद्देश्य-पूर्ति के लिए यह आवश्यक है कि जनमानस उन योजनाओं के लिए तैयार हो। स्पष्ट शब्दों में हम कह सकते हैं, कि सत्ता राष्ट्र-निर्माण रूपी फसल के लिए हल चलाने वाले किसान का कार्य तो कर सकती है, किंतु उसे भूमि जनमानस को ही बनानी पड़ेगी। अन्यथा फसल या तो हवाई होगी या फिर हमलों की फसल होगी, जैसा आजकल 'अधिक अन्न उपजाओ' आंदोलन के कर्णधार भारत के मंत्रिगण कराया करते हैं। इस फसल को किस-किस बुभुक्षित के सामने रखेगी शासन-सत्ता ? यह प्रश्न मस्तिष्क में चक्कर ही काटा करता है। निर्माण-काल में यदि समाचार-पत्र सत्समालोचना से उतरकर ध्वसात्मक हो गया तो निश्चित रूप से वह कर्तव्यच्युत हो जाता है, किंतु सत्समालोचना निर्माण के लिए उतनी ही आवश्यक है, जितना निर्माण का समर्थन।

Sub questions

Question Number : 196 Question Id : 99836719108 Question Type : MCQ Option Shuffling : Yes Display Question Number : Yes
Single Line Question Option : No Option Orientation : Vertical

Correct Marks : 1 Wrong Marks : 0.25

तानाशाह किसे कोई महत्त्व नहीं देता?

Options :

- ✔ जनमानस के जागरण को
- ✘ निर्माण को
- ✘ जनमानस को
- ✘ योजनाओं को

Question Number : 197 Question Id : 99836719109 Question Type : MCQ Option Shuffling : Yes Display Question Number : Yes
Single Line Question Option : No Option Orientation : Vertical

Correct Marks : 1 Wrong Marks : 0.25

सच्चा राष्ट्र-निर्माण किसे कहा गया है?

Options :

1. ✘ तानाशाह पर आधारित
2. ✘ भार स्वरूप आधारित
3. ✔ जनमानस की तैयारी पर आधारित
4. ✘ मंत्रिगण पर आधारित

Question Number : 198 Question Id : 99836719110 Question Type : MCQ Option Shuffling : Yes Display Question Number : Yes
Single Line Question Option : No Option Orientation : Vertical

Correct Marks : 1 Wrong Marks : 0.25

किसी भी निर्माण के लिए समर्थन की तरह और किसकी आवश्यकता है?

Options :

1. ✘ कर्तव्यच्युत
2. ✔ सत्समालोचना
3. ✘ आन्दोलन
4. ✘ पहचान

Question Number : 199 Question Id : 99836719111 Question Type : MCQ Option Shuffling : Yes Display Question Number : Yes
Single Line Question Option : No Option Orientation : Vertical

Correct Marks : 1 Wrong Marks : 0.25

इनमें से कौन - सा बुभुक्षित का पर्यायवाची नहीं है?

Options :

1. ✘ भूखा
2. ✘ क्षुधित
3. ✘ निराहार
4. ✔ भरपेट

Question Number : 200 Question Id : 99836719112 Question Type : MCQ Option Shuffling : Yes Display Question Number : Yes
Single Line Question Option : No Option Orientation : Vertical

Correct Marks : 1 Wrong Marks : 0.25

इस अनुच्छेद का कोई उपयुक्त शीर्षक-

Options :

1. ✘ तानाशाह
2. ✘ समर्थन
3. ✔ सच्चे राष्ट्र का निर्माण
4. ✘ जागरण

Question Id : 99836719107 Question Type : COMPREHENSION Sub Question Shuffling Allowed : Yes Group Comprehension
Questions : No

Question Numbers : (196 to 200)

Question Label : Comprehension

नीचे दिए गए गद्यांश को ध्यानपूर्वक और दिए गए प्रश्न के सर्वोत्तम उत्तर चुनें

तानाशाह जनमानस के जागरण को कोई महत्त्व नहीं देता। उसका निर्माण ऊपर से चलता है, किंतु यह लादा हुआ भार-स्वरूप निर्माण हो जाता है। सच्चा राष्ट्र-निर्माण वह है, जो जनमानस की तैयारी पर आधारित रहता है। योजनाएँ शासन और सत्ता बनाएँ, उन्हें कार्यरूप में परिणत भी करें, किंतु साथ ही उन्हें चिर-स्थायी बनाए रखने एवं पूर्णतया उद्देश्य-पूर्ति के लिए यह आवश्यक है कि जनमानस उन योजनाओं के लिए तैयार हो। स्पष्ट शब्दों में हम कह सकते हैं, कि सत्ता राष्ट्र-निर्माण रूपा फसल के लिए हल चलाने वाले किसान का कार्य तो कर सकती है, किंतु उसे भूमि जनमानस को ही बनानी पड़ेगी। अन्यथा फसल या तो हवाई होगी या फिर हमलों की फसल होगी; जैसा आजकल 'अधिक अन्न उपजाओ' आंदोलन के कर्णधार भारत के मंत्रिगण कराया करते हैं। इस फसल को किस-किस बुभुक्षित के सामने रखेगी शासन-सत्ता ? यह प्रश्न मस्तिष्क में चक्कर ही काटा करता है। निर्माण-काल में यदि समाचार-पत्र सत्समालोचना से उतरकर ध्वसात्मक हो गया तो निश्चित रूप से वह कर्तव्यच्युत हो जाता है, किंतु सत्समालोचना निर्माण के लिए उतनी ही आवश्यक है, जितना निर्माण का समर्थन।

Sub questions

Question Number : 196 Question Id : 99836719108 Question Type : MCQ Option Shuffling : Yes Display Question Number : Yes
Single Line Question Option : No Option Orientation : Vertical

Correct Marks : 1 Wrong Marks : 0.25

तानाशाह किसे कोई महत्त्व नहीं देता?

Options :

- जनमानस के जागरण को
- निर्माण को
- जनमानस को
- योजनाओं को

Question Number : 197 Question Id : 99836719109 Question Type : MCQ Option Shuffling : Yes Display Question Number : Yes
Single Line Question Option : No Option Orientation : Vertical

Correct Marks : 1 Wrong Marks : 0.25

सच्चा राष्ट्र-निर्माण किसे कहा गया है?

Options :

- तानाशाह पर आधारित
- भार स्वरूप आधारित
- जनमानस की तैयारी पर आधारित
- मंत्रिगण पर आधारित

Question Number : 198 Question Id : 99836719110 Question Type : MCQ Option Shuffling : Yes Display Question Number : Yes
Single Line Question Option : No Option Orientation : Vertical

Correct Marks : 1 Wrong Marks : 0.25

किसी भी निर्माण के लिए समर्थन की तरह और किसकी आवश्यकता है?

Options :

- कर्तव्यच्युत
- सत्समालोचना
- आन्दोलन
- पहचान

Question Number : 199 Question Id : 99836719111 Question Type : MCQ Option Shuffling : Yes Display Question Number : Yes
Single Line Question Option : No Option Orientation : Vertical

Correct Marks : 1 Wrong Marks : 0.25

इनमें से कौन - सा बुभुक्षित का पर्यायवाची नहीं है?

Options :

- भूखा
- क्षुधित
- निराहार
- भरपेट

Question Number : 200 Question Id : 99836719112 Question Type : MCQ Option Shuffling : Yes Display Question Number : Yes
Single Line Question Option : No Option Orientation : Vertical

Correct Marks : 1 Wrong Marks : 0.25

इस अनुच्छेद का कोई उपयुक्त शीर्षक-

Options :

1. ✘ तानाशाह
2. ✘ समर्थन
3. ✔ सच्चे राष्ट्र का निर्माण
4. ✘ जागरण