

Education Consultant India Ltd.

Notations :

1.Options shown in green color and with ✓ icon are correct.

2.Options shown in red color and with ✖ icon are incorrect.

Question Paper Name:	Grade IV DASS 24th September 2019 Shift 2
Subject Name:	Grade IV DASS
Creation Date:	2019-09-24 16:33:55
Duration:	120
Total Marks:	200
Display Marks:	Yes
Share Answer Key With Delivery Engine:	No
Actual Answer Key:	Yes
Calculator:	None
Magnifying Glass Required?:	No
Ruler Required?:	No
Eraser Required?:	No
Scratch Pad Required?:	No
Rough Sketch/Notepad Required?:	No
Protractor Required?:	No
Show Watermark on Console?:	Yes
Highlighter:	No
Auto Save on Console?:	No

Mental Ability1

Group Number :	1
Group Id :	5459272251
Group Maximum Duration :	0
Group Minimum Duration :	0
Show Attended Group? :	No
Edit Attended Group? :	No
Break time:	0
Group Marks:	20
Is this Group for Examiner?:	No
Revisit allowed for group Instructions? :	Yes
Maximum Instruction Time:	0
Minimum Instruction Time:	0

Mental Ability1

Section Id :	5459272251
Section Number :	1

Section type :	Online
Mandatory or Optional:	Mandatory
Number of Questions:	20
Number of Questions to be attempted:	20
Section Marks:	20

Sub-Section Number:	1
Sub-Section Id:	5459272701
Question Shuffling Allowed :	Yes

Question Number : 1 Question Id : 54592745451 Question Type : MCQ Option Shuffling : Yes
Correct Marks : 1 Wrong Marks : 0.25

A series is given with one term missing. Select the correct alternative from the given ones that will complete the series.

RB, TE, VH, XK , ?

Options :

1. ✘ ZM
2. ✔ ZN
3. ✘ AO
4. ✘ AN

Question Number : 1 Question Id : 54592745451 Question Type : MCQ Option Shuffling : Yes
Correct Marks : 1 Wrong Marks : 0.25

एक अनुक्रम दिया गया है, जिसमें से एक पद लुप्त है। दिए गए विकल्पों में से वह सही विकल्प चुनिए, जो अनुक्रम को पूरा करे।

RB, TE, VH, XK , ?

Options :

1. ✘ ZM
2. ✔ ZN
3. ✘ AO
4. ✘ AN

Question Number : 2 Question Id : 54592745452 Question Type : MCQ Option Shuffling : Yes

Correct Marks : 1 Wrong Marks : 0.25

A series is given with one term missing. Select the correct alternative from the given ones that will complete the series.

PRO, RWW, TBE, VGM , ?

Options :

1. ✖ XLV

2. ✖ YMU

3. ✔ XLU

4. ✖ YMV

Question Number : 2 Question Id : 54592745452 Question Type : MCQ Option Shuffling : Yes

Correct Marks : 1 Wrong Marks : 0.25

एक अनुक्रम दिया गया है, जिसमें से एक पद लुप्त है। दिए गए विकल्पों में से वह सही विकल्प चुनिए, जो अनुक्रम को पूरा करे।

PRO, RWW, TBE, VGM , ?

Options :

1. ✖ XLV

2. ✖ YMU

3. ✔ XLU

4. ✖ YMV

Question Number : 3 Question Id : 54592745453 Question Type : MCQ Option Shuffling : Yes

Correct Marks : 1 Wrong Marks : 0.25

A series is given with one term missing. Select the correct alternative from the given ones that will complete the series.

MING, JDKB, GYHW, DTER , ?

Options :

1. ✖ APBM
2. ✖ BPCN
3. ✖ BOCN
4. ✔ AOBM

Question Number : 3 Question Id : 54592745453 Question Type : MCQ Option Shuffling : Yes
Correct Marks : 1 Wrong Marks : 0.25

एक अनुक्रम दिया गया है, जिसमें से एक पद लुप्त है। दिए गए विकल्पों में से वह सही विकल्प चुनिए, जो अनुक्रम को पूरा करे।

MING, JDKB, GYHW, DTER , ?

Options :

1. ✖ APBM
2. ✖ BPCN
3. ✖ BOCN
4. ✔ AOBM

Question Number : 4 Question Id : 54592745454 Question Type : MCQ Option Shuffling : Yes
Correct Marks : 1 Wrong Marks : 0.25

In the following question, select the odd word from the given alternatives.

Options :

1. ✖ Sparrow
2. ✖ Ostrich
3. ✔ Fox
4. ✖ Parrot

Question Number : 4 Question Id : 54592745454 Question Type : MCQ Option Shuffling : Yes
Correct Marks : 1 Wrong Marks : 0.25

निम्नलिखित प्रश्न में दिए गए विकल्पों में से विषम शब्द को चुनिए।

Options :

1. * चिड़िया
2. * शतुरमुर्ग
3. ✓ लोमड़ी
4. * तोता

Question Number : 5 Question Id : 54592745455 Question Type : MCQ Option Shuffling : Yes

Correct Marks : 1 Wrong Marks : 0.25

In the following question, select the odd word from the given alternatives.

Options :

1. * Square
2. * Rhombus
3. * Rectangle
4. ✓ Prism

Question Number : 5 Question Id : 54592745455 Question Type : MCQ Option Shuffling : Yes

Correct Marks : 1 Wrong Marks : 0.25

निम्नलिखित प्रश्न में दिए गए विकल्पों में से विषम शब्द को चुनिए।

Options :

1. * वर्ग
2. * समचतुर्भुज
3. * आयत
4. ✓ प्रिज्म

Question Number : 6 Question Id : 54592745456 Question Type : MCQ Option Shuffling : Yes

Correct Marks : 1 Wrong Marks : 0.25

In the following question, select the odd word from the given alternatives.

Options :

1. * Supernova

2. * Sun

3. ✓ Moon

4. * Polestar

Question Number : 6 Question Id : 54592745456 Question Type : MCQ Option Shuffling : Yes

Correct Marks : 1 Wrong Marks : 0.25

निम्नलिखित प्रश्न में दिए गए विकल्पों में से विषम शब्द को चुनिए।

Options :

1. * अधिनव तारा

2. * सूर्य

3. ✓ चंद्रमा

4. * ध्रुवतारा

Question Number : 7 Question Id : 54592745457 Question Type : MCQ Option Shuffling : Yes

Correct Marks : 1 Wrong Marks : 0.25

In the following question, select the related words from the given alternatives.

Green : Colour :: Pen : ?

Options :

1. * Blue

2. * Gel

3. * Write

4. ✓ Stationary

Question Number : 7 Question Id : 54592745457 Question Type : MCQ Option Shuffling : Yes

Correct Marks : 1 Wrong Marks : 0.25

निम्नलिखित प्रश्न में दिए गए विकल्पों में से संबंधित शब्दों को चुनिए।

हरा : रंग :: कलम : ?

Options :

1. * नीला
2. * जेल
3. * लिखना
4. ✓ स्टेशनरी

Question Number : 8 Question Id : 54592745458 Question Type : MCQ Option Shuffling : Yes

Correct Marks : 1 Wrong Marks : 0.25

In the following question, select the related words from the given alternatives.

Electrons : Atom :: Pages : ?

Options :

1. * Write
2. ✓ Book
3. * Pen
4. * Ink

Question Number : 8 Question Id : 54592745458 Question Type : MCQ Option Shuffling : Yes

Correct Marks : 1 Wrong Marks : 0.25

निम्नलिखित प्रश्न में दिए गए विकल्पों में से संबंधित शब्दों को चुनिए।

इलेक्ट्रॉन : परमाणु :: पृष्ठ : ?

Options :

1. * लिखना
2. ✓ किताब

3. * कलम

4. * स्याही

Question Number : 9 Question Id : 54592745459 Question Type : MCQ Option Shuffling : Yes

Correct Marks : 1 Wrong Marks : 0.25

In the following question, select the related words from the given alternatives.

Good : Bad :: Wake : ?

Options :

1. ✓ Sleep

2. * Morning

3. * Fresh

4. * Open

Question Number : 9 Question Id : 54592745459 Question Type : MCQ Option Shuffling : Yes

Correct Marks : 1 Wrong Marks : 0.25

निम्नलिखित प्रश्न में दिए गए विकल्पों में से संबंधित शब्दों को चुनिए।

अच्छा : बुरा :: जागना : ?

Options :

1. ✓ सोना

2. * सुबह

3. * ताजा

4. * खुला

Question Number : 10 Question Id : 54592745460 Question Type : MCQ Option Shuffling : Yes

Correct Marks : 1 Wrong Marks : 0.25

In a certain code language, 'SONG' is written as '1915147', 'RIBY' is written as '189225'. What is the code for 'ZAPT' in that code language?

Options :

1. ✖ 2116620
2. ✔ 2611620
3. ✖ 266201
4. ✖ 216160

Question Number : 10 Question Id : 54592745460 Question Type : MCQ Option Shuffling : Yes

Correct Marks : 1 Wrong Marks : 0.25

एक विशिष्ट कोड भाषा में, 'SONG' को '1915147' लिखा जाता है, 'RIBY' को '189225' लिखा जाता है। इस कोड भाषा में 'ZAPT' का कोड क्या है?

Options :

1. ✖ 2116620
2. ✔ 2611620
3. ✖ 266201
4. ✖ 216160

Question Number : 11 Question Id : 54592745461 Question Type : MCQ Option Shuffling : Yes

Correct Marks : 1 Wrong Marks : 0.25

In a certain code language, 'PARROT' is written as 'TUVLSN'. What is the code for 'SECRET' in that code language?

Options :

1. ✖ XXHLJN
2. ✖ XXGLJN
3. ✖ WYHLIN
4. ✔ WYGLIN

Question Number : 11 Question Id : 54592745461 Question Type : MCQ Option Shuffling : Yes
Correct Marks : 1 Wrong Marks : 0.25

एक विशिष्ट कोड भाषा में, 'PARROT' को 'TUVLSN' लिखा जाता है।
इस कोड भाषा में 'SECRET' का कोड क्या है?

Options :

1. ✘ XXHLJN
2. ✘ XXGLJN
3. ✘ WYHLIN
4. ✔ WYGLIN

Question Number : 12 Question Id : 54592745462 Question Type : MCQ Option Shuffling : Yes
Correct Marks : 1 Wrong Marks : 0.25

In a certain code language, 'VERBAL' is written as 'AVWYFO'.
What is the code for 'REASON' in that code language?

Options :

1. ✔ WVFHTM
2. ✘ XVFJVP
3. ✘ WVFJVP
4. ✘ XVFGUQ

Question Number : 12 Question Id : 54592745462 Question Type : MCQ Option Shuffling : Yes
Correct Marks : 1 Wrong Marks : 0.25

एक विशिष्ट कोड भाषा में, 'VERBAL' को 'AVWYFO' लिखा जाता है।
इस कोड भाषा में 'REASON' का कोड क्या है?

Options :

1. ✔ WVFHTM
2. ✘ XVFJVP
3. ✘ WVFJVP
4. ✘ XVFGUQ

Question Number : 13 Question Id : 54592745463 Question Type : MCQ Option Shuffling : Yes
Correct Marks : 1 Wrong Marks : 0.25

P1, P2, P3, P4 and P5 are standing in line facing north. P3 stands in the middle. P2 and P5 cannot stand with P3. P3 is not standing to the left of P1. Who is standing second from right end?

Options :

1. ✖ P1
2. ✔ P4
3. ✖ P2
4. ✖ P5

Question Number : 13 Question Id : 54592745463 Question Type : MCQ Option Shuffling : Yes
Correct Marks : 1 Wrong Marks : 0.25

P1, P2, P3, P4, तथा P5 एक पंक्ति में उत्तर की ओर मुख करके खड़े हैं। P3, मध्य में खड़ा है। P2 तथा P5, P3 के साथ नहीं खड़े हो सकते हैं। P3, P1 के बायीं ओर नहीं खड़ा है। दायीं छोर से दूसरा कौन खड़ा है?

Options :

1. ✖ P1
2. ✔ P4
3. ✖ P2
4. ✖ P5

Question Number : 14 Question Id : 54592745464 Question Type : MCQ Option Shuffling : Yes
Correct Marks : 1 Wrong Marks : 0.25

K1, K2, K3 and K4 are sitting around a circular table facing towards the centre. K2 is sitting left to the K1. K4 is sitting right to the K3. Who is sitting at the second place to the left of K2?

Options :

1. * K3 or K4

2. * K1

3. ✓ K3

4. * K4

Question Number : 14 Question Id : 54592745464 Question Type : MCQ Option Shuffling : Yes

Correct Marks : 1 Wrong Marks : 0.25

K1, K2, K3 तथा K4 एक गोलाकार मेज के चारो ओर केन्द्र की ओर मुख करके बैठे हैं। K2, K1 के बायीं ओर बैठा है। K4, K3 के दाईं ओर बैठा है। K2 के दाईं ओर दूसरे स्थान पर कौन बैठा है?

Options :

1. * K3 अथवा K4

2. * K1

3. ✓ K3

4. * K4

Question Number : 15 Question Id : 54592745465 Question Type : MCQ Option Shuffling : Yes

Correct Marks : 1 Wrong Marks : 0.25

Eight persons F1, F2, F3, F4, F5, F6, F7 and F8 are sitting around a rectangular table facing towards the centre. Two persons are sitting in each side. F4 is sitting to the opposite of F3. F2 is sitting to the opposite of F8. F2 is sitting to the immediate left of F4. F4 and F7 are sitting on the same side. F5 is sitting to the opposite of F7. Who is sitting to the opposite of F6?

Options :

1. * F8

2. * F6

3. * F2

4. ✓ F1

Question Number : 15 Question Id : 54592745465 Question Type : MCQ Option Shuffling : Yes

Correct Marks : 1 Wrong Marks : 0.25

आठ व्यक्ति F1, F2, F3, F4, F5, F6, F7 तथा F8 एक आयताकार मेज के चारों ओर केन्द्र की ओर मुख करके बैठे हैं। प्रत्येक भुजा पर दो व्यक्ति बैठे हैं। F4, F3 के विपरीत बैठा है। F2, F8 के विपरीत बैठा है। F2, F4 के तुरंत बायीं ओर बैठा है। F4 तथा F7 एक ही भुजा पर बैठे हैं। F5, F7 के विपरीत बैठा है। F6 के विपरीत कौन बैठा है?

Options :

1. ✗ F8
2. ✗ F6
3. ✗ F2
4. ✓ F1

Question Number : 16 Question Id : 54592745466 Question Type : MCQ Option Shuffling : Yes

Correct Marks : 1 Wrong Marks : 0.25

Seven persons M1, M2, M3, M4, M5, M6 and M7 are sitting around a circular table facing towards the centre. M5 is sitting between M6 and M7. M1 is sitting between M2 and M4. M1 is sitting at second place to the left of M6. M4 cannot sit with M3. Who is sitting at the third place to the right of M4?

Options :

1. ✗ M3
2. ✓ M7
3. ✗ M2
4. ✗ M5

Question Number : 16 Question Id : 54592745466 Question Type : MCQ Option Shuffling : Yes

Correct Marks : 1 Wrong Marks : 0.25

सात व्यक्ति M1, M2, M3, M4, M5, M6 तथा M7 एक गोलाकार मेज के चारों ओर केन्द्र की ओर मुख करके बैठे हैं। M5, M6 तथा M7 के बीच में बैठा है। M1, M2 तथा M4 के बीच में बैठा है। M1, M6 के बायीं ओर दूसरे स्थान पर बैठा है। M4, M3 के साथ नहीं बैठ सकता। M4 के दायीं ओर तीसरे स्थान पर कौन बैठा है?

Options :

1. ✖ M3
2. ✔ M7
3. ✖ M2
4. ✖ M5

Question Number : 17 Question Id : 54592745467 Question Type : MCQ Option Shuffling : Yes

Correct Marks : 1 Wrong Marks : 0.25

Eight girls N1, N2, N3, N4, N5, N6, N7 and N8 are sitting around a circular table facing towards the centre. N4 is sitting between N1 and N5. N5 is sitting second to the right of N6. N2 is sitting between N3 and N7. N6 is sitting between N7 and N8. Who is sitting at third place to the left of N7?

Options :

1. ✖ N6
2. ✖ N4
3. ✖ N3
4. ✔ N1

Question Number : 17 Question Id : 54592745467 Question Type : MCQ Option Shuffling : Yes

Correct Marks : 1 Wrong Marks : 0.25

आठ लड़कियाँ N1, N2, N3, N4, N5, N6, N7 तथा N8 एक वृताकार मेज के चारों ओर केन्द्र की ओर मुख करके बैठी हैं। N4, N1 तथा N5 के बीच में बैठी है। N5, N6 के दायीं ओर दूसरे स्थान पर बैठी है। N2, N3 तथा N7 के बीच में बैठी है। N6, N7 तथा N8 के बीच में बैठी है। N7 के बायीं ओर तीसरे स्थान पर कौन बैठी है?

Options :

1. ✖ N6

2. ✖ N4

3. ✖ N3

4. ✔ N1

Question Number : 18 Question Id : 54592745468 Question Type : MCQ Option Shuffling : Yes

Correct Marks : 1 Wrong Marks : 0.25

In the following question below are given some statements followed by some conclusions based on those statements. Taking the given statements to be true even if they seem to be at variance from commonly known facts. Read all the conclusions and then decide which of the given conclusion logically follows the given statements.

Statements:

I. All A are B.

II. Some B are C.

Conclusions:

I. Some A are C.

II. Some C are A.

III. Some B are A.

Options :

1. * Both conclusion I and II follows
2. * Both conclusion I and III follows
3. * Both conclusion II and III follows
4. ✓ Only conclusion III follows

Question Number : 18 Question Id : 54592745468 Question Type : MCQ Option Shuffling : Yes
Correct Marks : 1 Wrong Marks : 0.25

नीचे दिए गए प्रश्न में कुछ कथन और उनके बाद उन कथनों पर आधारित कुछ निष्कर्ष दिए गए हैं। दिए गए कथनों को सही माने, चाहे उनमें सामान्य ज्ञात तथ्यों से भिन्नता हो। सभी निष्कर्ष पढ़ें और फिर निर्धारित करें कि दिए गए कौन से निष्कर्ष, दिए गए कथनों के आधार पर युक्तिसंगत हैं।

कथन:

- I. सभी A, B हैं।
- II. कुछ B, C हैं।

निष्कर्ष:

- I. कुछ A, C हैं।
- II. कुछ C, A हैं।
- III. कुछ B, A हैं।

Options :

1. * दोनों निष्कर्ष I तथा II अनुसरण करते हैं
2. * दोनों निष्कर्ष I तथा III अनुसरण करते हैं
3. * दोनों निष्कर्ष II तथा III अनुसरण करते हैं
4. ✓ केवल निष्कर्ष III अनुसरण करता है

Question Number : 19 Question Id : 54592745469 Question Type : MCQ Option Shuffling : Yes

Correct Marks : 1 Wrong Marks : 0.25

In the following question below are given some statements followed by some conclusions based on those statements. Taking the given statements to be true even if they seem to be at variance from commonly known facts. Read all the conclusions and then decide which of the given conclusion logically follows the given statements.

Statements:

- I. Some red are black.
- II. Some black are coal.

Conclusions:

- I. Some red are coal.
- II. Some coal are red.
- III. No red is coal.

Options :

- 1. ✖ Only conclusion I follows
- 2. ✖ Only conclusion II follows
- 3. ✖ Only conclusion III follows
- 4. ✔ Neither conclusion follows

Question Number : 19 Question Id : 54592745469 Question Type : MCQ Option Shuffling : Yes

Correct Marks : 1 Wrong Marks : 0.25

नीचे दिए गए प्रश्न में कुछ कथन और उनके बाद उन कथनों पर आधारित कुछ निष्कर्ष दिए गए हैं। दिए गए कथनों को सही माने, चाहे उनमें सामान्य ज्ञात तथ्यों से भिन्नता हो। सभी निष्कर्ष पढ़ें और फिर निर्धारित करें कि दिए गए कौन से निष्कर्ष, दिए गए कथनों के आधार पर युक्तिसंगत हैं।

कथन:

- I. कुछ लाल, काले हैं।
- II. कुछ काले, कोयला हैं।

निष्कर्ष:

- I. कुछ लाल, कोयला हैं।
- II. कुछ लाल, कोयला हैं।
- III. कोई लाल, कोयला नहीं हैं।

Options :

1. * केवल निष्कर्ष I अनुसरण करता है
2. * केवल निष्कर्ष II अनुसरण करता है
3. * केवल निष्कर्ष III अनुसरण करता है
4. ✓ कोई भी निष्कर्ष अनुसरण नहीं करता है

Question Number : 20 Question Id : 54592745470 Question Type : MCQ Option Shuffling : Yes

Correct Marks : 1 Wrong Marks : 0.25

In the following question, select the missing number from the given series.

20, 10, 5, 2.5, 1.25, ?

Options :

1. ✓ 0.625

2. ✗ 1056

3. ✗ 1.32

4. ✗ 1.58

Question Number : 20 Question Id : 54592745470 Question Type : MCQ Option Shuffling : Yes
Correct Marks : 1 Wrong Marks : 0.25

निम्नलिखित प्रश्न में दी गई श्रृंखला में से लुप्त अंक ज्ञात कीजिए।

20, 10, 5, 2.5, 1.25, ?

Options :

1. ✓ 0.625

2. ✗ 1056

3. ✗ 1.32

4. ✗ 1.58

Mental Ability2

Group Number :	2
Group Id :	5459272252
Group Maximum Duration :	0
Group Minimum Duration :	0
Show Attended Group? :	No
Edit Attended Group? :	No
Break time:	0
Group Marks:	20
Is this Group for Examiner?:	No
Revisit allowed for group Instructions? :	Yes
Maximum Instruction Time:	0
Minimum Instruction Time:	0

Mental Ability2

Section Id :	5459272252
Section Number :	1
Section type :	Online

Mandatory or Optional:	Mandatory
Number of Questions:	20
Number of Questions to be attempted:	20
Section Marks:	20

Sub-Section Number:	1
Sub-Section Id:	5459272702
Question Shuffling Allowed :	Yes

Question Number : 21 Question Id : 54592745471 Question Type : MCQ Option Shuffling : Yes
Correct Marks : 1 Wrong Marks : 0.25

In the following question, select the missing number from the given series.

355, 356, 360, 369, 385, ?

Options :

1. ✖ 365
2. ✖ 359
3. ✖ 379
4. ✔ 410

Question Number : 21 Question Id : 54592745471 Question Type : MCQ Option Shuffling : Yes
Correct Marks : 1 Wrong Marks : 0.25

निम्नलिखित प्रश्न में दी गई श्रृंखला में से लुप्त अंक ज्ञात कीजिए।

355, 356, 360, 369, 385, ?

Options :

1. ✖ 365
2. ✖ 359
3. ✖ 379
4. ✔ 410

Question Number : 22 Question Id : 54592745472 Question Type : MCQ Option Shuffling : Yes
Correct Marks : 1 Wrong Marks : 0.25

In the following question, select the missing number from the given series.

61, 121, 241, 481, 961, ?

Options :

1. ✖ 745

2. ✔ 1921

3. ✖ 892

4. ✖ 888

Question Number : 22 Question Id : 54592745472 Question Type : MCQ Option Shuffling : Yes

Correct Marks : 1 Wrong Marks : 0.25

निम्नलिखित प्रश्न में दी गई श्रृंखला में से लुप्त अंक ज्ञात कीजिए।

61, 121, 241, 481, 961, ?

Options :

1. ✖ 745

2. ✔ 1921

3. ✖ 892

4. ✖ 888

Question Number : 23 Question Id : 54592745473 Question Type : MCQ Option Shuffling : Yes

Correct Marks : 1 Wrong Marks : 0.25

In the following question, select the missing number from the given series.

11, 24, ?, 102, 206, 414

Options :

1. ✔ 50

2. ✖ 86

3. ✖ 199

4. ✖ 398

Question Number : 23 Question Id : 54592745473 Question Type : MCQ Option Shuffling : Yes

Correct Marks : 1 Wrong Marks : 0.25

निम्नलिखित प्रश्न में दी गई श्रृंखला में से लुप्त अंक ज्ञात कीजिए।

11, 24, ?, 102, 206, 414

Options :

1. ✔ 50

2. ✖ 86

3. ✖ 199

4. ✖ 398

Question Number : 24 Question Id : 54592745474 Question Type : MCQ Option Shuffling : Yes

Correct Marks : 1 Wrong Marks : 0.25

In the following question, select the number which can be placed at the sign of question mark (?) from the given alternatives.

3	2	10	60
4	5	2	40
2	8	5	?

Options :

1. ✖ 120

2. ✔ 80

3. ✖ 90

4. ✖ 40

Question Number : 24 Question Id : 54592745474 Question Type : MCQ Option Shuffling : Yes

Correct Marks : 1 Wrong Marks : 0.25

निम्नलिखित प्रश्न में दिए गए विकल्पों में से प्रश्न चिन्ह (?) के स्थान पर आने वाली संख्या को चुनिए।

3	2	10	60
4	5	2	40
2	8	5	?

Options :

1. ✖ 120

2. ✔ 80

3. ✖ 90

4. ✖ 40

Question Number : 25 Question Id : 54592745475 Question Type : MCQ Option Shuffling : Yes

Correct Marks : 1 Wrong Marks : 0.25

In the following question, select the number which can be placed at the sign of question mark (?) from the given alternatives.

2	4	8
3	6	7
7	9	11
13	33	?

Options :

1. ✖ 60

2. ✖ 64

3. ✖ 65

4. ✔ 67

Question Number : 25 Question Id : 54592745475 Question Type : MCQ Option Shuffling : Yes

Correct Marks : 1 Wrong Marks : 0.25

निम्नलिखित प्रश्न में दिए गए विकल्पों में से प्रश्न चिन्ह (?) के स्थान पर आने वाली संख्या को चुनिए।

2	4	8
3	6	7
7	9	11
13	33	?

Options :

1. ✖ 60
2. ✖ 64
3. ✖ 65
4. ✔ 67

Question Number : 26 Question Id : 54592745476 Question Type : MCQ Option Shuffling : Yes
Correct Marks : 1 Wrong Marks : 0.25

In the following question, select the number which can be placed at the sign of question mark (?) from the given alternatives.

23	12	34
46	56	28
54	43	67
141	120	?

Options :

1. ✖ 199
2. ✔ 201
3. ✖ 196
4. ✖ 297

Question Number : 26 Question Id : 54592745476 Question Type : MCQ Option Shuffling : Yes
Correct Marks : 1 Wrong Marks : 0.25

निम्नलिखित प्रश्न में दिए गए विकल्पों में से प्रश्न चिन्ह (?) के स्थान पर आने वाली संख्या को चुनिए।

23	12	34
46	56	28
54	43	67
141	120	?

Options :

- ✘ 199
- ✔ 201
- ✘ 196
- ✘ 297

Question Number : 27 Question Id : 54592745477 Question Type : MCQ Option Shuffling : Yes

Correct Marks : 1 Wrong Marks : 0.25

By interchanging which two signs and two numbers the equation will be correct?

$$3 \times 9 \div 8 + 2 - 5 = 9$$

Options :

- ✘ 2 and 5, + and -
- ✔ 8 and 3, × and +
- ✘ 2 and 3, + and ×
- ✘ 8 and 3, × and -

Question Number : 27 Question Id : 54592745477 Question Type : MCQ Option Shuffling : Yes

Correct Marks : 1 Wrong Marks : 0.25

किन दो चिहनों तथा दो संख्याओं को आपस में परस्पर बदलने पर समीकरण सही हो जाएगा?

$$3 \times 9 \div 8 + 2 - 5 = 9$$

Options :

1. ✖ 2 तथा 5, + तथा -
2. ✔ 8 तथा 3, × तथा +
3. ✖ 2 तथा 3, + तथा ×
4. ✖ 8 तथा 3, × तथा -

Question Number : 28 Question Id : 54592745478 Question Type : MCQ Option Shuffling : Yes

Correct Marks : 1 Wrong Marks : 0.25

If 'P' means '+', 'Q' means '÷', 'R' means '-' and 'S' means '×', then which of the following equation is incorrect?

Options :

1. ✖ $3S2P4Q6R3 > 9$
2. ✔ $5P7S2Q4R2 > 7$
3. ✖ $12Q3R2P5S3 > 15$
4. ✖ $6Q2R5P2S3 < 5$

Question Number : 28 Question Id : 54592745478 Question Type : MCQ Option Shuffling : Yes

Correct Marks : 1 Wrong Marks : 0.25

यदि 'P' का अर्थ '+', 'Q' का अर्थ '÷', 'R' का अर्थ '-' तथा 'S' का अर्थ '×' हो, तो निम्नलिखित में से कौन सा समीकरण सही नहीं है?

Options :

1. ✖ $3S2P4Q6R3 > 9$
2. ✔ $5P7S2Q4R2 > 7$
3. ✖ $12Q3R2P5S3 > 15$

4. ✖ 6Q2R5P2S3<5

Question Number : 29 Question Id : 54592745479 Question Type : MCQ Option Shuffling : Yes

Correct Marks : 1 Wrong Marks : 0.25

If $12 @ 3 @ 7 = 630$ and $10 @ 2 @ 5 = 336$, then $11 @ 1 @ 3 = ?$

Options :

1. ✖ 99

2. ✔ 195

3. ✖ 165

4. ✖ 117

Question Number : 29 Question Id : 54592745479 Question Type : MCQ Option Shuffling : Yes

Correct Marks : 1 Wrong Marks : 0.25

यदि $12 @ 3 @ 7 = 630$ तथा $10 @ 2 @ 5 = 336$ हो, तो $11 @ 1 @ 3 = ?$

Options :

1. ✖ 99

2. ✔ 195

3. ✖ 165

4. ✖ 117

Question Number : 30 Question Id : 54592745480 Question Type : MCQ Option Shuffling : Yes

Correct Marks : 1 Wrong Marks : 0.25

Identify the diagram that best represents the relationship among the given classes.


Pen, Pencil, Stationary

Options :


1. ✓



2. ✘



3. ✘



4. ✘



Question Number : 30 Question Id : 54592745480 Question Type : MCQ Option Shuffling : Yes

Correct Marks : 1 Wrong Marks : 0.25

वह आरेख चुनिए जो नीचे दिए गए वर्गों के बीच के संबंध का सही निरूपण करता है।


पेन, पेंसिल, लेखासामग्री

Options :


1. ✓



2. ✘



3. ✘



4. ✘



Question Number : 31 Question Id : 54592745481 Question Type : MCQ Option Shuffling : Yes
Correct Marks : 1 Wrong Marks : 0.25

Identify the diagram that best represents the relationship among the given classes.

Water, White, Colour

Options :


1. ✔



2. ✘



3. ✘



4. ✘



Question Number : 31 Question Id : 54592745481 Question Type : MCQ Option Shuffling : Yes

Correct Marks : 1 Wrong Marks : 0.25

वह आरेख चुनिए जो नीचे दिए गए वर्गों के बीच के संबंध का सही निरूपण करता है।

पानी, सफेद, रंग

Options :


1. ✔



2. ✘



3. ✘





4. ✖

Question Number : 32 Question Id : 54592745482 Question Type : MCQ Option Shuffling : Yes
Correct Marks : 1 Wrong Marks : 0.25

K is 2 km South of L. L is 4 km east of M. M is 5 km west of N. N is 3 km North of O. O is 3 km East of P. P is in which direction from L?

Options :

1. ✖ South
2. ✔ South West
3. ✖ West
4. ✖ South East

Question Number : 32 Question Id : 54592745482 Question Type : MCQ Option Shuffling : Yes
Correct Marks : 1 Wrong Marks : 0.25

K, L के 2 कि.मी. दक्षिण में है। L, M के 4 कि.मी. पूर्व में है। M, N के 5 कि.मी. पश्चिम में है। N, O के 3 कि.मी. उत्तर में है। O, P के 3 कि.मी. पूर्व में है। P, L से किस दिशा में है?

Options :

1. ✖ दक्षिण
2. ✔ दक्षिण पश्चिम
3. ✖ पश्चिम
4. ✖ दक्षिण पूर्व

Question Number : 33 Question Id : 54592745483 Question Type : MCQ Option Shuffling : Yes
Correct Marks : 1 Wrong Marks : 0.25

Kamal goes 8 km toward West. He then takes a right turn and walks 3 km. He then takes a left turn and walks 5 km. He then takes a right turn and walks 3 km. He then takes a left turn and walks 15 km. In which direction is he from his initial position?

Options :

1. * South
2. * South West
3. * West
4. ✓ North West

Question Number : 33 Question Id : 54592745483 Question Type : MCQ Option Shuffling : Yes
Correct Marks : 1 Wrong Marks : 0.25

कमल 8 कि.मी. पश्चिम की ओर चलता है। वह फिर दाएं मुड़ता है तथा 3 कि.मी. चलता है। वह फिर बाएं मुड़ता है तथा 5 कि.मी. चलता है। वह फिर दाएं मुड़ता है तथा 3 कि.मी. चलता है। वह फिर बाएं मुड़ता है तथा 15 कि.मी. चलता है। वह अपने प्रारंभिक स्थान से किस दिशा में है?

Options :

1. * दक्षिण
2. * दक्षिण पश्चिम
3. * पश्चिम
4. ✓ उत्तर पश्चिम

Question Number : 34 Question Id : 54592745484 Question Type : MCQ Option Shuffling : Yes
Correct Marks : 1 Wrong Marks : 0.25

In the following question, select the figure which can be placed at the sign of question mark (?) from the given alternatives.



Options :



निम्नलिखित प्रश्न में दिए गए विकल्पों में से प्रश्न चिन्ह (?) के स्थान पर आने वाली आकृति को चुनिए।



Options :



1. ✘



2. ✘



3. ✔



4. ✘

Question Number : 35 Question Id : 54592745485 Question Type : MCQ Option Shuffling : Yes

Correct Marks : 1 Wrong Marks : 0.25

In the following question, select the figure which can be placed at the sign of question mark (?) from the given alternatives.



Options :



Question Number : 35 Question Id : 54592745485 Question Type : MCQ Option Shuffling : Yes
 Correct Marks : 1 Wrong Marks : 0.25

निम्नलिखित प्रश्न में दिए गए विकल्पों में से प्रश्न चिन्ह (?) के स्थान पर आने वाली आकृति को चुनिए।



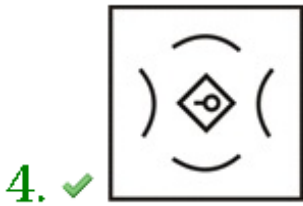
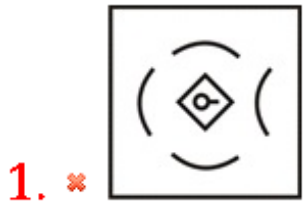
Options :



Question Number : 36 Question Id : 54592745486 Question Type : MCQ Option Shuffling : Yes
 Correct Marks : 1 Wrong Marks : 0.25

In the following question, select the odd figure from the given alternatives.

Options :




Question Number : 36 Question Id : 54592745486 Question Type : MCQ Option Shuffling : Yes

Correct Marks : 1 Wrong Marks : 0.25

निम्नलिखित प्रश्न में, दिए गए विकल्पों में से विषम आकृति को चुनिए।

Options :



3. ✖



4. ✔



Question Number : 37 Question Id : 54592745487 Question Type : MCQ Option Shuffling : Yes
Correct Marks : 1 Wrong Marks : 0.25

How many Quadrilateral are there in the given figure?



Options :

1. ✖ 4

2. ✖ 5

3. ✔ 6

4. ✖ 8

Question Number : 37 Question Id : 54592745487 Question Type : MCQ Option Shuffling : Yes
Correct Marks : 1 Wrong Marks : 0.25

दी गई आकृति में कितने चतुर्भुज हैं?



Options :

1. ✖ 4

2. ✖ 5

3. ✔ 6

4. ✖ 8

Question Number : 38 Question Id : 54592745488 Question Type : MCQ Option Shuffling : Yes

Correct Marks : 1 Wrong Marks : 0.25

How many Triangles are there in the given figure?



Note: For this question, discrepancy is found in question/answer. So, this question is ignored for all candidates.

Options :

1. 9

2. 10

3. 11

4. 12

Question Number : 38 Question Id : 54592745488 Question Type : MCQ Option Shuffling : Yes

Correct Marks : 1 Wrong Marks : 0.25

दी गई आकृति में कितने त्रिभुज हैं?



Note: For this question, discrepancy is found in question/answer. So, this question is ignored for all candidates.

Options :

1. 9
2. 10
3. 11
4. 12

Question Number : 39 Question Id : 54592745489 Question Type : MCQ Option Shuffling : Yes

Correct Marks : 1 Wrong Marks : 0.25

Three positions of a dice are given below. What will come opposite to face containing '3'?



Options :

1. ✓ 4
2. ✗ 1
3. ✗ 2
4. ✗ 6

Question Number : 39 Question Id : 54592745489 Question Type : MCQ Option Shuffling : Yes

Correct Marks : 1 Wrong Marks : 0.25

नीचे एक पासे की तीन अवस्थाएँ दी गयी हैं। '3' युक्त फलक के विपरीत क्या आयेगा?

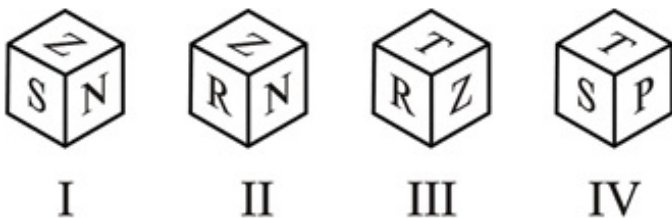
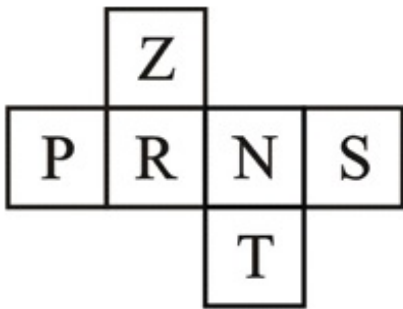


Options :

- 1. ✓ 4
- 2. ✗ 1
- 3. ✗ 2
- 4. ✗ 6

Question Number : 40 Question Id : 54592745490 Question Type : MCQ Option Shuffling : Yes Correct Marks : 1 Wrong Marks : 0.25

Which of the following cube can be formed?



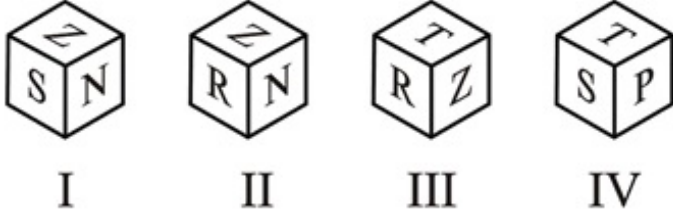
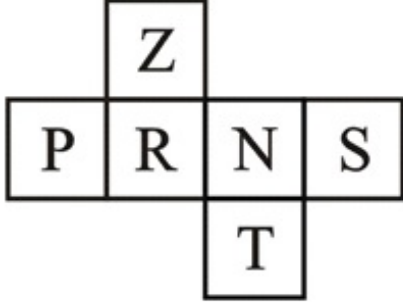
Options :

- 1. ✗ II, III and IV
- 2. ✗ I, II and III
- 3. ✗ I, III and IV

4. ✓ I, II and IV

Question Number : 40 Question Id : 54592745490 Question Type : MCQ Option Shuffling : Yes
Correct Marks : 1 Wrong Marks : 0.25

निम्नलिखित में से कौन सा घन बन सकता है?



Options :

1. ✗ II, III तथा IV
2. ✗ I, II तथा III
3. ✗ I, III तथा IV
4. ✓ I, II तथा IV

General Awareness1

Group Number :	3
Group Id :	5459272253
Group Maximum Duration :	0
Group Minimum Duration :	0
Show Attended Group? :	No
Edit Attended Group? :	No
Break time:	0
Group Marks:	20
Is this Group for Examiner? :	No
Revisit allowed for group Instructions? :	Yes
Maximum Instruction Time:	0
Minimum Instruction Time:	0

General Awareness1

Section Id :	5459272253
Section Number :	1
Section type :	Online
Mandatory or Optional:	Mandatory
Number of Questions:	20
Number of Questions to be attempted:	20
Section Marks:	20

Sub-Section Number:	1
Sub-Section Id:	5459272703
Question Shuffling Allowed :	Yes

Question Number : 41 Question Id : 54592745491 Question Type : MCQ Option Shuffling : Yes
Correct Marks : 1 Wrong Marks : 0.25

The festival of the 'Gurpurab' is celebrated by the people of which religion?

Options :

1. * Buddhism
2. * Jainism
3. * Christianity
4. ✓ Sikhism

Question Number : 41 Question Id : 54592745491 Question Type : MCQ Option Shuffling : Yes
Correct Marks : 1 Wrong Marks : 0.25

गुरु पर्व का त्योहार किस धर्म के लोगों द्वारा मनाया जाता है?

Options :

1. * बौद्ध
2. * जैन
3. * ईसाई
4. ✓ सिख

Question Number : 42 Question Id : 54592745492 Question Type : MCQ Option Shuffling : Yes
Correct Marks : 1 Wrong Marks : 0.25

Bhajan Sopori is associated for playing which musical instrument?

Options :

1. ✓ Santoor
2. ✗ Veena
3. ✗ Tabla
4. ✗ Shehnai

Question Number : 42 Question Id : 54592745492 Question Type : MCQ Option Shuffling : Yes
Correct Marks : 1 Wrong Marks : 0.25

भजन सोपोरी किस वाद्य यंत्र को बजाने से संबंधित हैं?

Options :

1. ✓ संतूर
2. ✗ वीणा
3. ✗ तबला
4. ✗ शहनाई

Question Number : 43 Question Id : 54592745493 Question Type : MCQ Option Shuffling : Yes
Correct Marks : 1 Wrong Marks : 0.25

The third day of 'Pongal' is celebrated as _____.

Options :

1. ✓ Mattu Pongal
2. ✗ Bhogi Pongal
3. ✗ Thai Pongal
4. ✗ Kaanum Pongal

Question Number : 43 Question Id : 54592745493 Question Type : MCQ Option Shuffling : Yes
Correct Marks : 1 Wrong Marks : 0.25

पोंगल का तीसरा दिन _____ के रूप में मनाया जाता है।

Options :

1. ✓ मट्टू पोंगल

2. * भोगी पोंगल
3. * थाई पोंगल
4. * कानुम पोंगल

Question Number : 44 Question Id : 54592745494 Question Type : MCQ Option Shuffling : Yes
Correct Marks : 1 Wrong Marks : 0.25

_____ festival is celebrated as harvest festival in Northern India.

Options :

1. ✓ Baisakhi
2. * Bihu
3. * Onam
4. * Pongal

Question Number : 44 Question Id : 54592745494 Question Type : MCQ Option Shuffling : Yes
Correct Marks : 1 Wrong Marks : 0.25

_____ को उत्तरी भारत में फसल कटाई के त्योहार के रूप में मनाया जाता है।

Options :

1. ✓ बैसाखी
2. * बिहू
3. * ओनम
4. * पोंगल

Question Number : 45 Question Id : 54592745495 Question Type : MCQ Option Shuffling : Yes
Correct Marks : 1 Wrong Marks : 0.25

Money held by the Government in the trust is kept in _____.

Options :

1. * Consolidated Fund of India
2. * Contingency Fund of India

3. ✓ Public Account

4. ✖ National Fund

Question Number : 45 Question Id : 54592745495 Question Type : MCQ Option Shuffling : Yes

Correct Marks : 1 Wrong Marks : 0.25

सरकार द्वारा ट्रस्ट में रखे गए धन को _____ में रखा जाता है।

Options :

1. ✖ भारत का समेकित कोष
2. ✖ भारत की आकस्मिकता निधि
3. ✓ लोक लेखा
4. ✖ राष्ट्रीय निधि

Question Number : 46 Question Id : 54592745496 Question Type : MCQ Option Shuffling : Yes

Correct Marks : 1 Wrong Marks : 0.25

In which Financial Year, Performance Budget and Outcome Budget presented by the Ministries individually were merged with the General Budget?

Options :

1. ✖ 2004 – 05
2. ✓ 2007 – 08
3. ✖ 2014 – 15
4. ✖ 2011 – 12

Question Number : 46 Question Id : 54592745496 Question Type : MCQ Option Shuffling : Yes

Correct Marks : 1 Wrong Marks : 0.25

किस वित्तीय वर्ष में, मंत्रालयों द्वारा व्यक्तिगत रूप से प्रस्तुत किए गए निष्पादन बजट और आउटकम बजट को आम बजट के साथ मिला दिया गया था?

Options :

1. ✖ 2004 - 05

2. ✓ 2007 - 08

3. ✖ 2014 - 15

4. ✖ 2011 - 12

Question Number : 47 Question Id : 54592745497 Question Type : MCQ Option Shuffling : Yes
Correct Marks : 1 Wrong Marks : 0.25

Which of the following is mandated under Fiscal Responsibility and Budget Management Act to be presented at the time of Budget in Parliament in India?

Options :

1. ✖ Finance Bill

2. ✖ Outcome Budget

3. ✓ Macro Economic Framework Statement

4. ✖ Expenditure Profile

Question Number : 47 Question Id : 54592745497 Question Type : MCQ Option Shuffling : Yes
Correct Marks : 1 Wrong Marks : 0.25

राजवित्तीय उत्तरदायित्व और बजट प्रबंध अधिनियम के तहत भारत में संसद में बजट प्रस्तुत करते समय निम्नलिखित में से क्या पेश करना अनिवार्य है?

Options :

1. ✖ वित्त विधेयक

2. ✖ आउटकम बजट

3. ✓ बृहद आर्थिक रूपरेखा विवरण

4. ✖ व्यय की रूप रेखा

Question Number : 48 Question Id : 54592745498 Question Type : MCQ Option Shuffling : Yes
Correct Marks : 1 Wrong Marks : 0.25

Sea Anemone belongs to which of the following groups?

Options :

1. ✓ Coelenterata
2. ✘ Platyhelminthes
3. ✘ Porifera
4. ✘ Bryophyta

Question Number : 48 Question Id : 54592745498 Question Type : MCQ Option Shuffling : Yes
Correct Marks : 1 Wrong Marks : 0.25

समुद्री रत्नज्योति (एनीमोन) निम्नलिखित में से किस समूह से संबंधित है?

Options :

1. ✓ सीलेन्टरेटा
2. ✘ प्लेटीहेल्मिन्थीज
3. ✘ पोरीफेरा
4. ✘ ब्रायोफ़ाइटा

Question Number : 49 Question Id : 54592745499 Question Type : MCQ Option Shuffling : Yes
Correct Marks : 1 Wrong Marks : 0.25

Plants with weak stems that take support on neighbouring structures are called _____.

Options :

1. ✓ Climbers
2. ✘ Creepers
3. ✘ Herbs
4. ✘ Shrubs

Question Number : 49 Question Id : 54592745499 Question Type : MCQ Option Shuffling : Yes
Correct Marks : 1 Wrong Marks : 0.25

कमजोर तने वाले पौधे जो आस-पास के ढांचों का समर्थन लेते हैं, उन्हें _____ कहा जाता है।

Options :

1. ✓ आरोही
2. ✘ विसर्पी लता
3. ✘ शाक
4. ✘ झाड़ी

Question Number : 50 Question Id : 54592745500 Question Type : MCQ Option Shuffling : Yes
Correct Marks : 1 Wrong Marks : 0.25

A current through a vertical power line flows in North to South direction. What is the direction of magnetic field directly at a point right of it?

Options :

1. ✘ North to South
2. ✘ South to North
3. ✘ East to West
4. ✓ West to East

Question Number : 50 Question Id : 54592745500 Question Type : MCQ Option Shuffling : Yes
Correct Marks : 1 Wrong Marks : 0.25

एक ऊर्ध्वाधर शक्ति संचरण लाइन (पावर लाइन) में उत्तर से दक्षिण दिशा में विद्युत् धारा प्रवाहित हो रही है। इसके एकदम दाईं ओर एक बिंदु पर चुंबकीय क्षेत्र की दिशा क्या है?

Options :

1. ✘ उत्तर से दक्षिण
2. ✘ दक्षिण से उत्तर
3. ✘ पूर्व से पश्चिम
4. ✓ पश्चिम से पूर्व

Question Number : 51 Question Id : 54592745501 Question Type : MCQ Option Shuffling : Yes
Correct Marks : 1 Wrong Marks : 0.25

On passing of hydrogen gas through heated copper oxide, the black material turns _____.

Options :

1. * Blue
2. * Grey
3. ✓ Brown
4. * Red

Question Number : 51 Question Id : 54592745501 Question Type : MCQ Option Shuffling : Yes
Correct Marks : 1 Wrong Marks : 0.25

एक गर्म कॉपर ऑक्साइड से हाइड्रोजन गैस प्रवाहित की जाए तो, काला पदार्थ _____ हो जाता है।

Options :

1. * नीला
2. * धूसर
3. ✓ भूरा
4. * लाल

Question Number : 52 Question Id : 54592745502 Question Type : MCQ Option Shuffling : Yes
Correct Marks : 1 Wrong Marks : 0.25

Which of the following is not a natural indicator to test whether a solution is acidic or basic?

Options :

1. * Litmus
2. * Cabbage leaves
3. ✓ Methyl orange
4. * Turmeric

Question Number : 52 Question Id : 54592745502 Question Type : MCQ Option Shuffling : Yes
Correct Marks : 1 Wrong Marks : 0.25

एक विलयन अम्ल या क्षारक है, की जाँच करने के लिए निम्नलिखित में से कौन एक प्राकृतिक सूचक नहीं है?

Options :

1. * लिटमस
2. * पत्ता गोभी के पत्ते
3. ✓ मेथिल ऑरेंज
4. * हल्दी

Question Number : 53 Question Id : 54592745503 Question Type : MCQ Option Shuffling : Yes

Correct Marks : 1 Wrong Marks : 0.25

The image formed by a concave mirror is real, inverted and highly enlarged. What is the position of the image?

Options :

1. * At focus
2. ✓ At infinity
3. * Behind the mirror
4. * At centre of curvature

Question Number : 53 Question Id : 54592745503 Question Type : MCQ Option Shuffling : Yes

Correct Marks : 1 Wrong Marks : 0.25

अवतल दर्पण द्वारा बनाए गए प्रतिबिंब का स्वरूप वास्तविक, उलटा तथा अत्यधिक विवर्धित है। बिंब की स्थिति क्या है?

Options :

1. * फोकस पर
2. ✓ अनंत पर
3. * दर्पण के पीछे
4. * वक्रता केंद्र पर

Question Number : 54 Question Id : 54592745504 Question Type : MCQ Option Shuffling : Yes

Correct Marks : 1 Wrong Marks : 0.25

In the process of dilution of concentrated nitric acid, _____.

Options :

1. * water is added to the acid in one go
2. * acid is added to water in one go
3. * water is added slowly to acid
4. ✓ acid is added slowly to water with constant stirring

Question Number : 54 Question Id : 54592745504 Question Type : MCQ Option Shuffling : Yes
Correct Marks : 1 Wrong Marks : 0.25

सांद्र नाइट्रिक अम्ल के तनुकरण की प्रक्रिया में _____।

Options :

1. * पानी एक ही बार में अम्ल में डाल दिया जाता है
2. * अम्ल एक ही बार में पानी में डाल दिया जाता है
3. * पानी धीरे-धीरे अम्ल में मिलाया जाता है
4. ✓ अम्ल धीरे-धीरे बिना घुलाये पानी में मिलाया जाता है

Question Number : 55 Question Id : 54592745505 Question Type : MCQ Option Shuffling : Yes
Correct Marks : 1 Wrong Marks : 0.25

Which mirror is used in solar furnaces?

Options :

1. * Plane mirror
2. * Convex mirror
3. ✓ Concave mirror
4. * Spherical mirror

Question Number : 55 Question Id : 54592745505 Question Type : MCQ Option Shuffling : Yes
Correct Marks : 1 Wrong Marks : 0.25

सौर भट्टियों में किस दर्पण का उपयोग किया जाता है?

Options :

1. * समतल दर्पण
2. * उत्तल दर्पण

3. ✓ अवतल दर्पण

4. ✗ गोलीय दर्पण

Question Number : 56 Question Id : 54592745506 Question Type : MCQ Option Shuffling : Yes

Correct Marks : 1 Wrong Marks : 0.25

Which of the following is/are direct cause(s) of river pollution?

I - Heavy City Traffic

II - Industrial Effluents

III - Untreated sewage

Options :

1. ✗ I , II and III

2. ✗ I and III

3. ✗ I and II

4. ✓ II and III

Question Number : 56 Question Id : 54592745506 Question Type : MCQ Option Shuffling : Yes

Correct Marks : 1 Wrong Marks : 0.25

निम्नलिखित में से क्या नदी प्रदूषण का/के प्रत्यक्ष कारण है/ हैं?

I - शहरों में भारी ट्रैफिक

II - औद्योगिक प्रवाह

III - अनुपचारित वाहितमल/सीवेज

Options :

1. ✗ I, II तथा III

2. ✗ I तथा III

3. ✗ I तथा II

4. ✓ II तथा III

Question Number : 57 Question Id : 54592745507 Question Type : MCQ Option Shuffling : Yes

Correct Marks : 1 Wrong Marks : 0.25

Chindwin River is in which country?

Options :

1. ✘ Bangladesh
2. ✔ Myanmar
3. ✘ Nepal
4. ✘ Bhutan

Question Number : 57 Question Id : 54592745507 Question Type : MCQ Option Shuffling : Yes

Correct Marks : 1 Wrong Marks : 0.25

चिन्दविन नदी किस देश में है?

Options :

1. ✘ बांग्लादेश
2. ✔ म्यांमार
3. ✘ नेपाल
4. ✘ भूटान

Question Number : 58 Question Id : 54592745508 Question Type : MCQ Option Shuffling : Yes

Correct Marks : 1 Wrong Marks : 0.25

The valley of _____ is situated between the Satpuras and the Vindhya.

Options :

1. ✔ Narmada
2. ✘ Ganga
3. ✘ Krishna
4. ✘ Kaveri

Question Number : 58 Question Id : 54592745508 Question Type : MCQ Option Shuffling : Yes

Correct Marks : 1 Wrong Marks : 0.25

_____ की घाटी सतपुड़ा और विंध्य के बीच स्थित है।

Options :

1. ✓ नर्मदा

2. ✘ गंगा

3. ✘ कृष्णा

4. ✘ कावेरी

Question Number : 59 Question Id : 54592745509 Question Type : MCQ Option Shuffling : Yes
Correct Marks : 1 Wrong Marks : 0.25

_____ mountains are created when large areas are broken and displaced vertically.

Options :

1. ✘ Fold

2. ✘ Volcanic

3. ✓ Block

4. ✘ Residual

Question Number : 59 Question Id : 54592745509 Question Type : MCQ Option Shuffling : Yes
Correct Marks : 1 Wrong Marks : 0.25

जब बड़े भूभाग टूट जाते हैं और उर्ध्वाधर रूप से विस्थापित हो जाते हैं तो _____ पर्वत बनते हैं।

Options :

1. ✘ वलित

2. ✘ ज्वालामुखीय

3. ✓ ब्लॉक

4. ✘ अवशिष्ट

Question Number : 60 Question Id : 54592745510 Question Type : MCQ Option Shuffling : Yes
Correct Marks : 1 Wrong Marks : 0.25

Mariana Trench, the deepest part of the Earth lies in which ocean?

Options :

1. * Arctic Ocean
2. * Atlantic Ocean
3. ✓ Pacific Ocean
4. * Indian Ocean

Question Number : 60 Question Id : 54592745510 Question Type : MCQ Option Shuffling : Yes
Correct Marks : 1 Wrong Marks : 0.25

पृथ्वी का सबसे गहरा हिस्सा, मारियाना गर्त किस महासागर में स्थित है?

Options :

1. * आर्कटिक महासागर
2. * अटलांटिक महासागर
3. ✓ प्रशांत महासागर
4. * हिंद महासागर

General Awareness2

Group Number :	4
Group Id :	5459272254
Group Maximum Duration :	0
Group Minimum Duration :	0
Show Attended Group? :	No
Edit Attended Group? :	No
Break time:	0
Group Marks:	20
Is this Group for Examiner? :	No
Revisit allowed for group Instructions? :	Yes
Maximum Instruction Time:	0
Minimum Instruction Time:	0

General Awareness2

Section Id :	5459272254
Section Number :	1
Section type :	Online
Mandatory or Optional:	Mandatory
Number of Questions:	20

Number of Questions to be attempted: 20
Section Marks: 20

Sub-Section Number: 1
Sub-Section Id: 5459272704
Question Shuffling Allowed : Yes

Question Number : 61 Question Id : 54592745511 Question Type : MCQ Option Shuffling : Yes
Correct Marks : 1 Wrong Marks : 0.25

Which of the following is a freshwater lake?

Options :

1. ✓ Wular lake
2. ✗ Sambhar lake
3. ✗ Chilika lake
4. ✗ Pulicat lake

Question Number : 61 Question Id : 54592745511 Question Type : MCQ Option Shuffling : Yes
Correct Marks : 1 Wrong Marks : 0.25

निम्नलिखित में से कौन सी एक मीठे पानी की झील है?

Options :

1. ✓ वूलर झील
2. ✗ सांभर झील
3. ✗ चिल्का झील
4. ✗ पुलिकट झील

Question Number : 62 Question Id : 54592745512 Question Type : MCQ Option Shuffling : Yes
Correct Marks : 1 Wrong Marks : 0.25

Which of the following is the birth place of Gautama Buddha?

Options :

1. ✗ Kushinagar
2. ✗ Bodh Gaya
3. ✗ Sarnath
4. ✓ Lumbini

Question Number : 62 Question Id : 54592745512 Question Type : MCQ Option Shuffling : Yes

Correct Marks : 1 Wrong Marks : 0.25

निम्नलिखित में से कौन सा गौतम बुद्ध का जन्म स्थान है?

Options :

1. ✖ कुशीनगर
2. ✖ बोध गया
3. ✖ सारनाथ
4. ✔ लुम्बिनी

Question Number : 63 Question Id : 54592745513 Question Type : MCQ Option Shuffling : Yes

Correct Marks : 1 Wrong Marks : 0.25

In which year did the East India Company acquire a charter from the Queen granting sole right to trade with the East?

Options :

1. ✖ 1717
2. ✖ 1700
3. ✖ 1616
4. ✔ 1600

Question Number : 63 Question Id : 54592745513 Question Type : MCQ Option Shuffling : Yes

Correct Marks : 1 Wrong Marks : 0.25

ईस्ट इंडिया कंपनी ने पूर्व के साथ व्यापार करने का एकमात्र अधिकार देने वाला चार्टर रानी से किस वर्ष में प्राप्त किया था?

Options :

1. ✖ 1717
2. ✖ 1700
3. ✖ 1616
4. ✔ 1600

Question Number : 64 Question Id : 54592745514 Question Type : MCQ Option Shuffling : Yes

Correct Marks : 1 Wrong Marks : 0.25

'Viharas' and 'Chaityas' belong to _____ architecture.

Options :

1. * Hindu
2. * Mughal
3. * Indo-Islamic
4. ✓ Buddhist

Question Number : 64 Question Id : 54592745514 Question Type : MCQ Option Shuffling : Yes

Correct Marks : 1 Wrong Marks : 0.25

'विहार' और 'चैत्य' _____ वास्तुकला से संबंधित हैं।

Options :

1. * हिंदू
2. * मुग़ल
3. * इंडो-इस्लामिक
4. ✓ बौद्ध

Question Number : 65 Question Id : 54592745515 Question Type : MCQ Option Shuffling : Yes

Correct Marks : 1 Wrong Marks : 0.25

Which of the following king built Sanchi Stupa?

Options :

1. * Chandragupta Maurya
2. ✓ Ashoka
3. * Akbar
4. * Samudragupta

Question Number : 65 Question Id : 54592745515 Question Type : MCQ Option Shuffling : Yes

Correct Marks : 1 Wrong Marks : 0.25

निम्नलिखित में से किस राजा ने सांची स्तूप का निर्माण करवाया था?

Options :

1. * चंद्रगुप्त मौर्य

2. ✓ अशोक

3. ✘ अकबर

4. ✘ समुद्रगुप्त

Question Number : 66 Question Id : 54592745516 Question Type : MCQ Option Shuffling : Yes
Correct Marks : 1 Wrong Marks : 0.25

Most of the Ashokan inscriptions were written in _____ scripts.

Options :

1. ✘ Devanagari and Tamil

2. ✘ Sarada and Nagari

3. ✘ Tamil and Indus

4. ✓ Brahmi and Kharosthi

Question Number : 66 Question Id : 54592745516 Question Type : MCQ Option Shuffling : Yes
Correct Marks : 1 Wrong Marks : 0.25

अशोक के अधिकांश शिलालेख _____ लिपियों में लिखे गए थे।

Options :

1. ✘ देवनागरी और तमिल

2. ✘ सारदा और नागरी

3. ✘ तमिल और सिंधु

4. ✓ ब्राह्मी और खरोष्ठी

Question Number : 67 Question Id : 54592745517 Question Type : MCQ Option Shuffling : Yes
Correct Marks : 1 Wrong Marks : 0.25

Who was made the Nawab of Bengal after the defeat of Siraj ud-Daulah in Battle of Plassey?

Options :

1. ✘ Alivardi Khan

2. ✓ Mir Jafar

3. * Shuja ud-Daulah

4. * Murshid Quli Khan

Question Number : 67 Question Id : 54592745517 Question Type : MCQ Option Shuffling : Yes

Correct Marks : 1 Wrong Marks : 0.25

प्लासी के युद्ध में सिराज उद-दौला की हार के बाद किसे बंगाल का नवाब बनाया गया था?

Options :

1. * अलीवर्दी खान

2. ✓ मीर जाफ़र

3. * शुजा उद-दौला

4. * मुर्शिद कुली खान

Question Number : 68 Question Id : 54592745518 Question Type : MCQ Option Shuffling : Yes

Correct Marks : 1 Wrong Marks : 0.25

Which of the following author won 54th 'Jnanpith Award'?

Options :

1. * Shashi Tharoor

2. * Amish Tripathi

3. * Arundhati Roy

4. ✓ Amitav Ghosh

Question Number : 68 Question Id : 54592745518 Question Type : MCQ Option Shuffling : Yes

Correct Marks : 1 Wrong Marks : 0.25

निम्नलिखित में से कौन से लेखक ने 54 वां ज्ञानपीठ पुरस्कार जीता है?

Options :

1. * शशि थरूर

2. * अमीष त्रिपाठी

3. * अरुंधति रॉय

4. ✓ अमितव घोष

Question Number : 69 Question Id : 54592745519 Question Type : MCQ Option Shuffling : Yes
Correct Marks : 1 Wrong Marks : 0.25

A Commemorative postage stamp has been released in December 2018 on which of the following personality associated with the Champaran Satyagraha?

Options :

1. ✘ Pir Muhammad Munis
2. ✘ Shaikh Gulab
3. ✘ Sheikh Rajab Ali
4. ✓ Raj Kumar Shukla

Question Number : 69 Question Id : 54592745519 Question Type : MCQ Option Shuffling : Yes
Correct Marks : 1 Wrong Marks : 0.25

दिसंबर 2018 में चम्पारण सत्याग्रह से जुड़े निम्नलिखित में से किस व्यक्तित्व पर एक स्मरणीय डाक टिकट जारी किया गया है?

Options :

1. ✘ पीर मुहम्मद मुनीस
2. ✘ शेख गुलाब
3. ✘ शेख रजब अली
4. ✓ राज कुमार शुक्ल

Question Number : 70 Question Id : 54592745520 Question Type : MCQ Option Shuffling : Yes
Correct Marks : 1 Wrong Marks : 0.25

NASA is planning to send its 'Dragonfly' drone to Titan .Titan is a moon of _____.

Options :

1. ✘ Jupiter
2. ✘ Mars
3. ✓ Saturn

4. * Neptune

Question Number : 70 Question Id : 54592745520 Question Type : MCQ Option Shuffling : Yes
Correct Marks : 1 Wrong Marks : 0.25

नासा अपने 'ड्रैगनफ्लाई' ड्रोन को टाइटन पर भेजने की योजना बना रहा है। टाइटन _____ गृह का चन्द्रमा है।

Options :

1. * बृहस्पति
2. * मंगल
3. ✓ शनि
4. * नेपच्यून

Question Number : 71 Question Id : 54592745521 Question Type : MCQ Option Shuffling : Yes
Correct Marks : 1 Wrong Marks : 0.25

Seven Mega Missions' has been announced by which of the following space agency?

Options :

1. ✓ ISRO
2. * NASA
3. * ROSCOSMOS
4. * JAXA

Question Number : 71 Question Id : 54592745521 Question Type : MCQ Option Shuffling : Yes
Correct Marks : 1 Wrong Marks : 0.25

'सात मेगा मिशन' की घोषणा किस अंतरिक्ष एजेंसी ने की है?

Options :

1. ✓ इसरो
2. * नासा
3. * रोसकोसमोस
4. * जाक्सा

Question Number : 72 Question Id : 54592745522 Question Type : MCQ Option Shuffling : Yes

Correct Marks : 1 Wrong Marks : 0.25

What is the name of the new co-authored book, by Vinit Goenka launched in June 2019?

Options :

1. ✓ Function of Data Sovereignty – The Pursuit of Supermacy
2. ✘ Data Colonisation
3. ✘ Reclaim Your Sovereignty
4. ✘ Freedom of the Will

Question Number : 72 Question Id : 54592745522 Question Type : MCQ Option Shuffling : Yes

Correct Marks : 1 Wrong Marks : 0.25

जून 2019 में प्रमोचित विनीत गोयनका द्वारा सह-लिखित नई पुस्तक का नाम क्या है?

Options :

1. ✓ फंक्शन ऑफ़ डाटा सोवरेण्टी - परसुयट ऑफ़ सुपरेमेसी
2. ✘ डेटा कोलोनिसेशन
3. ✘ रिकलेमयॉर सोवरेइन्टी
4. ✘ फ्रीडम ऑफ़ दी विल

Question Number : 73 Question Id : 54592745523 Question Type : MCQ Option Shuffling : Yes

Correct Marks : 1 Wrong Marks : 0.25

Who is the author of the book ‘Cricket World Cup : The Indian Challenge’?

Options :

1. ✘ Harsha Bhogle
2. ✘ Gaurav Kapoor
3. ✓ Ashis Ray
4. ✘ Ravi Shastri

Question Number : 73 Question Id : 54592745523 Question Type : MCQ Option Shuffling : Yes

Correct Marks : 1 Wrong Marks : 0.25

‘क्रिकेट वर्ल्ड कप : द इंडियन चैलेंज’ किताब के लेखक कौन हैं?

Options :

1. ✖ हर्षा भोगले
2. ✖ गौरव कपूर
3. ✔ आशीष रे
4. ✖ रवि शास्त्री

Question Number : 74 Question Id : 54592745524 Question Type : MCQ Option Shuffling : Yes

Correct Marks : 1 Wrong Marks : 0.25

Uniform Civil Code is given under which Article of the Indian Constitution?

Options :

1. ✖ Article 24
2. ✖ Article 42
3. ✖ Article 45
4. ✔ Article 44

Question Number : 74 Question Id : 54592745524 Question Type : MCQ Option Shuffling : Yes

Correct Marks : 1 Wrong Marks : 0.25

एक समान सिविल संहिता भारतीय संविधान के किस अनुच्छेद के तहत दी गयी है?

Options :

1. ✖ अनुच्छेद 24
2. ✖ अनुच्छेद 42
3. ✖ अनुच्छेद 45
4. ✔ अनुच्छेद 44

Question Number : 75 Question Id : 54592745525 Question Type : MCQ Option Shuffling : Yes

Correct Marks : 1 Wrong Marks : 0.25

Which of the following word is mentioned in the Preamble to the Constitution?

Options :

1. ✖ Solidarity
2. ✖ Responsible
3. ✖ Autocratic
4. ✔ Justice

Question Number : 75 Question Id : 54592745525 Question Type : MCQ Option Shuffling : Yes

Correct Marks : 1 Wrong Marks : 0.25

संविधान की प्रस्तावना में निम्नलिखित में से किस शब्द का उल्लेख है?

Options :

1. ✖ एकजुटता
2. ✖ उत्तरदायी
3. ✖ निरंकुश
4. ✔ न्याय

Question Number : 76 Question Id : 54592745526 Question Type : MCQ Option Shuffling : Yes

Correct Marks : 1 Wrong Marks : 0.25

Fisheries as a subject is mentioned in which list?

Options :

1. ✖ Union List
2. ✔ State List
3. ✖ Concurrent List
4. ✖ Both Union and Concurrent Lists

Question Number : 76 Question Id : 54592745526 Question Type : MCQ Option Shuffling : Yes

Correct Marks : 1 Wrong Marks : 0.25

मत्स्य पालन कौन सी सूची में आता है?

Options :

1. ✖ संघ सूची

2. ✓ राज्य सूची

3. * समवर्ती सूची

4. * संघ तथा समवर्ती दोनों सूची

Question Number : 77 Question Id : 54592745527 Question Type : MCQ Option Shuffling : Yes

Correct Marks : 1 Wrong Marks : 0.25

The President of India holds office for a term of _____ years.

Options :

1. * Four

2. ✓ Five

3. * Six

4. * Seven

Question Number : 77 Question Id : 54592745527 Question Type : MCQ Option Shuffling : Yes

Correct Marks : 1 Wrong Marks : 0.25

भारत के राष्ट्रपति का कार्यकाल _____ वर्ष का होता है।

Options :

1. * चार

2. ✓ पांच

3. * छह

4. * सात

Question Number : 78 Question Id : 54592745528 Question Type : MCQ Option Shuffling : Yes

Correct Marks : 1 Wrong Marks : 0.25

Which of the following is not an Olympic sport?

Options :

1. * Polo

2. ✓ Cricket

3. * Rowing

4. * Football

Question Number : 78 Question Id : 54592745528 Question Type : MCQ Option Shuffling : Yes
Correct Marks : 1 Wrong Marks : 0.25

निम्नलिखित में से कौन सा एक ओलिंपिक खेल नहीं है?

Options :

1. ✖ पोलो
2. ✔ क्रिकेट
3. ✖ रोईंग
4. ✖ फुटबॉल

Question Number : 79 Question Id : 54592745529 Question Type : MCQ Option Shuffling : Yes
Correct Marks : 1 Wrong Marks : 0.25

Which Indian footballer surpassed Lionel Messi and became 2nd most prolific goal scorer in a national football team?

Options :

1. ✖ Robin Singh
2. ✔ Sunil Chhetri
3. ✖ Gurpreet Singh Sandhu
4. ✖ Sandesh Jhingan

Question Number : 79 Question Id : 54592745529 Question Type : MCQ Option Shuffling : Yes
Correct Marks : 1 Wrong Marks : 0.25

कौन सा भारतीय फुटबॉलर मेस्सी को पीछे छोड़ एक राष्ट्रीय फुटबॉल टीम में सर्वोच्च गोल करने वाला दूसरा खिलाड़ी बना?

Options :

1. ✖ रॉबिन सिंह
2. ✔ सुनील छेत्री
3. ✖ गुरप्रीत सिंह संधू
4. ✖ सन्देश झिंगन

Question Number : 80 Question Id : 54592745530 Question Type : MCQ Option Shuffling : Yes
Correct Marks : 1 Wrong Marks : 0.25

Who among the following won the 'Golden Bat' for scoring maximum runs in the ICC World Cup 2019?

Options :

1. ✖ Shakib Al Hasan
2. ✖ Kane Williamson
3. ✖ David Warner
4. ✔ Rohit Sharma

Question Number : 80 Question Id : 54592745530 Question Type : MCQ Option Shuffling : Yes

Correct Marks : 1 Wrong Marks : 0.25

2019 के ICC विश्व कप में निम्नलिखित में से किसने अधिकतम रन बनाने के लिए 'गोल्डन बैट' जीता?

Options :

1. ✖ शाकिब अल हसन
2. ✖ केन विलियमसन
3. ✖ डेविड वार्नर
4. ✔ रोहित शर्मा

Arithmetic Ability1

Group Number :	5
Group Id :	5459272255
Group Maximum Duration :	0
Group Minimum Duration :	0
Show Attended Group? :	No
Edit Attended Group? :	No
Break time:	0
Group Marks:	20
Is this Group for Examiner?:	No
Revisit allowed for group Instructions? :	Yes
Maximum Instruction Time:	0
Minimum Instruction Time:	0

Arithmetic Ability1

Section Id :	5459272255
Section Number :	1
Section type :	Online
Mandatory or Optional:	Mandatory
Number of Questions:	20
Number of Questions to be attempted:	20
Section Marks:	20

Sub-Section Number:	1
Sub-Section Id:	5459272705
Question Shuffling Allowed :	Yes

Question Number : 81 Question Id : 54592745531 Question Type : MCQ Option Shuffling : Yes

Correct Marks : 1 Wrong Marks : 0.25

What is the value of $45 \times (1/6) \div (4/3) - (15/4) + (17/8)$?

Options :

1. ✖ $5/8$

2. ✖ $4/15$

3. ✖ 12

4. ✔ 4

Question Number : 81 Question Id : 54592745531 Question Type : MCQ Option Shuffling : Yes

Correct Marks : 1 Wrong Marks : 0.25

$45 \times (1/6) \div (4/3) - (15/4) + (17/8)$ का मान क्या है?

Options :

1. ✖ $5/8$

2. ✖ $4/15$

3. ✖ 12

4. ✔ 4

Question Number : 82 Question Id : 54592745532 Question Type : MCQ Option Shuffling : Yes

Correct Marks : 1 Wrong Marks : 0.25

The product of two numbers is 18900 and their Highest Common Factor is 30. What is the Least Common Multiple of these numbers?

Options :

1. ✖ 840

2. ✖ 720

3. ✔ 630

4. ✖ 750

Question Number : 82 Question Id : 54592745532 Question Type : MCQ Option Shuffling : Yes
Correct Marks : 1 Wrong Marks : 0.25

दो संख्याओं का गुणनफल 18900 है तथा उनका महत्तम समापवर्तक 30 है। इन संख्याओं का लघुत्तम समापवर्त्य क्या है?

Options :

1. ✖ 840

2. ✖ 720

3. ✔ 630

4. ✖ 750

Question Number : 83 Question Id : 54592745533 Question Type : MCQ Option Shuffling : Yes
Correct Marks : 1 Wrong Marks : 0.25

What is the value of $\frac{\frac{1}{5 \times 5 \times 5} - \frac{1}{7 \times 7 \times 7}}{\frac{1}{25} + \frac{1}{35} + \frac{1}{7^2}}$?

Options :

1. ✖ 2/7

2. ✔ 2/35

3. ✖ 7/5

4. ✖ 1/35

Question Number : 83 Question Id : 54592745533 Question Type : MCQ Option Shuffling : Yes
Correct Marks : 1 Wrong Marks : 0.25

$\frac{\frac{1}{5 \times 5 \times 5} - \frac{1}{7 \times 7 \times 7}}{\frac{1}{25} + \frac{1}{35} + \frac{1}{7^2}}$ का मान क्या है?

Options :

1. ✖ 2/7

2. ✔ 2/35

3. ✖ 7/5

4. ✖ 1/35

Question Number : 84 Question Id : 54592745534 Question Type : MCQ Option Shuffling : Yes
Correct Marks : 1 Wrong Marks : 0.25

What is the value of $\left(\frac{12 \times 12 \times 12 + 18 \times 18 \times 18 + 15 \times 15 \times 15 - 3 \times 12 \times 18 \times 15}{45}\right)$?

Options :

1. ✖ 36

2. ✔ 27

3. ✖ 90

4. ✖ 45

Question Number : 84 Question Id : 54592745534 Question Type : MCQ Option Shuffling : Yes
Correct Marks : 1 Wrong Marks : 0.25

$\left(\frac{12 \times 12 \times 12 + 18 \times 18 \times 18 + 15 \times 15 \times 15 - 3 \times 12 \times 18 \times 15}{45}\right)$ का मान क्या है?

Options :

1. ✖ 36

2. ✔ 27

3. ✖ 90

4. ✖ 45

Question Number : 85 Question Id : 54592745535 Question Type : MCQ Option Shuffling : Yes
Correct Marks : 1 Wrong Marks : 0.25

What is the value of $\frac{4}{9} + \left(\frac{1}{3} \div \frac{1}{12} - 2\right) - \frac{1}{3} \times \frac{15}{9}$?

Options :

1. ✖ 2

2. ✖ 3

3. ✔ 17/9

4. ✖ 3/14

Question Number : 85 Question Id : 54592745535 Question Type : MCQ Option Shuffling : Yes
Correct Marks : 1 Wrong Marks : 0.25

$\frac{4}{9} + \left(\frac{1}{3} \div \frac{1}{12} - 2 \right) - \frac{1}{3} \times \frac{15}{9}$ का मान क्या है?

Options :

1. ✖ 2

2. ✖ 3

3. ✔ 17/9

4. ✖ 3/14

Question Number : 86 Question Id : 54592745536 Question Type : MCQ Option Shuffling : Yes
Correct Marks : 1 Wrong Marks : 0.25

What is the value of $\left(\frac{96}{5} + \frac{1}{25} - \frac{810}{125} \right) \times \frac{5}{1276}$?

Options :

1. ✖ 1/80

2. ✔ 1/20

3. ✖ 100

4. ✖ 1

Question Number : 86 Question Id : 54592745536 Question Type : MCQ Option Shuffling : Yes
Correct Marks : 1 Wrong Marks : 0.25

$\left(\frac{96}{5} + \frac{1}{25} - \frac{810}{125} \right) \times \frac{5}{1276}$ का मान क्या है?

Options :

1. ✖ 1/80

2. ✓ 1/20

3. ✗ 100

4. ✗ 1

Question Number : 87 Question Id : 54592745537 Question Type : MCQ Option Shuffling : Yes
Correct Marks : 1 Wrong Marks : 0.25

What is the value of $\frac{3}{40} + \left(\frac{8}{25} \div \frac{56}{15} - \frac{3}{5} \right) \times \frac{49}{25}$?

Options :

1. ✗ -0.872

2. ✓ -0.933

3. ✗ 0.933

4. ✗ 0.872

Question Number : 87 Question Id : 54592745537 Question Type : MCQ Option Shuffling : Yes
Correct Marks : 1 Wrong Marks : 0.25

$\frac{3}{40} + \left(\frac{8}{25} \div \frac{56}{15} - \frac{3}{5} \right) \times \frac{49}{25}$ का मान क्या है?

Options :

1. ✗ -0.872

2. ✓ -0.933

3. ✗ 0.933

4. ✗ 0.872

Question Number : 88 Question Id : 54592745538 Question Type : MCQ Option Shuffling : Yes
Correct Marks : 1 Wrong Marks : 0.25

What is the value of $\left(18 + \frac{5}{12} \right) - \frac{16}{35} \times \frac{7}{48} - \frac{1}{15}$?

Options :

1. ✗ 893/1000

2. ✓ 1097/60

3. ✖ 1201/48

4. ✖ 1199/23

Question Number : 88 Question Id : 54592745538 Question Type : MCQ Option Shuffling : Yes

Correct Marks : 1 Wrong Marks : 0.25

$\left(18 + \frac{5}{12}\right) - \frac{16}{35} \times \frac{7}{48} - \frac{1}{15}$ का मान क्या है?

Options :

1. ✖ 893/1000

2. ✔ 1097/60

3. ✖ 1201/48

4. ✖ 1199/23

Question Number : 89 Question Id : 54592745539 Question Type : MCQ Option Shuffling : Yes

Correct Marks : 1 Wrong Marks : 0.25

What is the value of $\left(\frac{1}{3} + \frac{1}{4}\right) - \left(\frac{1}{8} \div \frac{5}{2}\right) + \frac{8}{9} \times \frac{5}{2}$?

Options :

1. ✖ 1/96

2. ✔ 124/45

3. ✖ 3/64

4. ✖ 56/125

Question Number : 89 Question Id : 54592745539 Question Type : MCQ Option Shuffling : Yes

Correct Marks : 1 Wrong Marks : 0.25

$\left(\frac{1}{3} + \frac{1}{4}\right) - \left(\frac{1}{8} \div \frac{5}{2}\right) + \frac{8}{9} \times \frac{5}{2}$ का मान क्या है?

Options :

1. ✖ 1/96

2. ✔ 124/45

3. ✖ 3/64

4. ✖ 56/125

Question Number : 90 Question Id : 54592745540 Question Type : MCQ Option Shuffling : Yes
Correct Marks : 1 Wrong Marks : 0.25

What is the value of $\frac{1}{8} + \frac{7}{45} - \left(\frac{9}{46} \times \frac{115}{54}\right) + \frac{36}{5}$?

Options :

1. ✖ 945/2

2. ✔ 2543/360

3. ✖ 1120/81

4. ✖ 2216/491

Question Number : 90 Question Id : 54592745540 Question Type : MCQ Option Shuffling : Yes
Correct Marks : 1 Wrong Marks : 0.25

$\frac{1}{8} + \frac{7}{45} - \left(\frac{9}{46} \times \frac{115}{54}\right) + \frac{36}{5}$ का मान क्या है?

Options :

1. ✖ 945/2

2. ✔ 2543/360

3. ✖ 1120/81

4. ✖ 2216/491

Question Number : 91 Question Id : 54592745541 Question Type : MCQ Option Shuffling : Yes
Correct Marks : 1 Wrong Marks : 0.25

The average weight of a group of 30 persons is 50 kg. The average weight of another group of 50 persons is K kg. If the average weight of all the 80 persons is 40 kg, then what is the value of K?

Options :

1. ✖ 45

2. ✔ 34

3. ✖ 40

4. ✖ 38

Question Number : 91 Question Id : 54592745541 Question Type : MCQ Option Shuffling : Yes
Correct Marks : 1 Wrong Marks : 0.25

30 व्यक्तियों के एक समूह का औसत भार 50 कि.ग्रा. है। 50 व्यक्तियों के दूसरे समूह का औसत भार K कि.ग्रा. है। यदि सभी 80 व्यक्तियों का औसत भार 40 कि.ग्रा. है, तो K का मान क्या है?

Options :

1. ✖ 45

2. ✔ 34

3. ✖ 40

4. ✖ 38

Question Number : 92 Question Id : 54592745542 Question Type : MCQ Option Shuffling : Yes
Correct Marks : 1 Wrong Marks : 0.25

The profit earned on selling an article is twice the value of discount given. If the profit earned is 60% of the marked price, then discount given is what percent of the cost price?

Options :

1. ✖ 33.33 percent

2. ✔ 300 percent

3. ✖ 100 percent

4. ✖ 30 percent

Question Number : 92 Question Id : 54592745542 Question Type : MCQ Option Shuffling : Yes
Correct Marks : 1 Wrong Marks : 0.25

एक वस्तु को बेचने पर कमाया गया लाभ दी गई छूट के मान का दोगुना है। यदि कमाया गया लाभ अंकित मूल्य का 60% है, तो दी गई छूट क्रय मूल्य की कितनी प्रतिशत है?

Options :

1. ✖ 33.33 प्रतिशत

2. ✔ 300 प्रतिशत

3. ✖ 100 प्रतिशत

4. ✖ 30 प्रतिशत

Question Number : 93 Question Id : 54592745543 Question Type : MCQ Option Shuffling : Yes
Correct Marks : 1 Wrong Marks : 0.25

A person purchases 9 identical chairs of equal cost price. Marked price of each chair is 25% more than the cost price. He gave 10% discount on 3 chairs, 20% discount on 4 chairs and 15% discount on the remaining chairs. What is the total profit percent?

Options :

1. ✖ 8 percent

2. ✖ 10 percent

3. ✔ 5.55 percent

4. ✖ 9.09 percent

Question Number : 93 Question Id : 54592745543 Question Type : MCQ Option Shuffling : Yes
Correct Marks : 1 Wrong Marks : 0.25

एक व्यक्ति समान क्रय मूल्य वाली एक जैसी 9 कुर्सीयाँ खरीदता है। प्रत्येक कुर्सी का अंकित मूल्य, क्रय मूल्य से 25% अधिक है। वह 3 कुर्सीयाँ पर 10% छूट देता है, 4 कुर्सीयाँ पर 20% छूट देता है तथा शेष कुर्सीयाँ पर 15% छूट देता है। कुल लाभ प्रतिशत क्या है?

Options :

1. ✖ 8 प्रतिशत

2. ✖ 10 प्रतिशत

3. ✔ 5.55 प्रतिशत

4. * 9.09 प्रतिशत

Question Number : 94 Question Id : 54592745544 Question Type : MCQ Option Shuffling : Yes
Correct Marks : 1 Wrong Marks : 0.25

What should be added to 35% of 420 so that the obtained number becomes equal to 25% of 600?

Options :

1. * 0

2. ✓ 3

3. * 1

4. * 2

Question Number : 94 Question Id : 54592745544 Question Type : MCQ Option Shuffling : Yes
Correct Marks : 1 Wrong Marks : 0.25

420 के 35% में क्या जोड़ा जाना चाहिए जिससे कि प्राप्त संख्या 600 के 25% के समान हो जाए?

Options :

1. * 0

2. ✓ 3

3. * 1

4. * 2

Question Number : 95 Question Id : 54592745545 Question Type : MCQ Option Shuffling : Yes
Correct Marks : 1 Wrong Marks : 0.25

Rohan's income is 150% of Deepak's income and Deepak's income is 50% of Ritik's income. Rohan's income is what percent of 20% of combined income of Deepak and Ritik?

Note: For this question, discrepancy is found in question/answer. So, this question is ignored for all candidates.

Options :

1. 200 percent

2. 220 percent

3. 240 percent

4. 150 percent

Question Number : 95 Question Id : 54592745545 Question Type : MCQ Option Shuffling : Yes

Correct Marks : 1 Wrong Marks : 0.25

रोहन की आय, दीपक की आय की 150% है तथा दीपक की आय, रितिक की आय की 50% है। रोहन की आय, दीपक तथा रितिक की संयुक्त आय के 20% की कितनी प्रतिशत है?

Note: For this question, discrepancy is found in question/answer. So, this question is ignored for all candidates.

Options :

1. 200 प्रतिशत

2. 220 प्रतिशत

3. 240 प्रतिशत

4. 150 प्रतिशत

Question Number : 96 Question Id : 54592745546 Question Type : MCQ Option Shuffling : Yes

Correct Marks : 1 Wrong Marks : 0.25

A bag contains 600 pens of blue ink and 1200 pens of red ink. If 20% of blue ink pens are removed and 50% of red ink pens are removed, then what percent pens of initial number of pens are left in the bag?

Options :

1. ✖ 70 percent

2. ✖ 50 percent

3. ✔ 60 percent

4. ✖ 75 percent

Question Number : 96 Question Id : 54592745546 Question Type : MCQ Option Shuffling : Yes

Correct Marks : 1 Wrong Marks : 0.25

एक थैले में नीली स्याही के 600 पेन तथा लाल स्याही के 1200 पेन हैं। यदि नीली स्याही के 20% पेन अलग कर दिए गये हैं तथा लाल स्याही के 50% पेन अलग कर दिए गये हैं, तो थैले में पेनों की आरंभिक संख्या के कितने प्रतिशत पेन बचे हुए हैं?

Options :

1. ✖ 70 प्रतिशत
2. ✖ 50 प्रतिशत
3. ✔ 60 प्रतिशत
4. ✖ 75 प्रतिशत

Question Number : 97 Question Id : 54592745547 Question Type : MCQ Option Shuffling : Yes
Correct Marks : 1 Wrong Marks : 0.25

Selling price of an article is Rs. 900 and profit percentage is 12.5%. What is the cost price of the article?

Options :

1. ✖ Rs. 880
2. ✖ Rs. 1000
3. ✔ Rs. 800
4. ✖ Rs. 990

Question Number : 97 Question Id : 54592745547 Question Type : MCQ Option Shuffling : Yes
Correct Marks : 1 Wrong Marks : 0.25

एक वस्तु का विक्रय मूल्य 900 रुपये है तथा लाभ प्रतिशत 12.5% है। वस्तु का क्रय मूल्य क्या है?

Options :

1. ✖ 880 रुपये
2. ✖ 1000 रुपये
3. ✔ 800 रुपये

4. * 990 रुपये

Question Number : 98 Question Id : 54592745548 Question Type : MCQ Option Shuffling : Yes
Correct Marks : 1 Wrong Marks : 0.25

The profit earned on selling an article for Rs. 1600 is 10 times of the loss incurred on selling the same article for Rs. 1380. What is the selling price of the article to earn a profit of 20%?

Options :

1. * Rs. 1560
2. * Rs. 1600
3. ✓ Rs. 1680
4. * Rs. 1580

Question Number : 98 Question Id : 54592745548 Question Type : MCQ Option Shuffling : Yes
Correct Marks : 1 Wrong Marks : 0.25

एक वस्तु को 1600 रुपये में बेचने पर हुआ लाभ, समान वस्तु को 1380 रुपये में बेचने पर हुई हानि का 10 गुना है। 20% का लाभ कमाने के लिए वस्तु का विक्रय मूल्य क्या है?

Options :

1. * 1560 रुपये
2. * 1600 रुपये
3. ✓ 1680 रुपये
4. * 1580 रुपये

Question Number : 99 Question Id : 54592745549 Question Type : MCQ Option Shuffling : Yes
Correct Marks : 1 Wrong Marks : 0.25

The ratio of cost price of first, second and third article is 2 : 5 : 3 respectively. If first article is sold at 20% profit, second at 6% profit and the third at 15% loss, then what is the overall profit/loss percent?

Options :

1. * 11 percent, loss
2. * 6 percent, profit
3. ✓ 2.5 percent, profit
4. * No profit No loss

Question Number : 99 Question Id : 54592745549 Question Type : MCQ Option Shuffling : Yes
Correct Marks : 1 Wrong Marks : 0.25

पहली, दूसरी तथा तीसरी वस्तु के क्रय मूल्य का अनुपात क्रमशः 2 : 5 : 3 है। यदि पहली वस्तु को 20% के लाभ पर दूसरी को 6% के लाभ पर तथा तीसरी को 15% की हानि पर बेचा गया है, तो कुल लाभ/हानि प्रतिशत क्या है?

Options :

1. * 11 प्रतिशत, हानि
2. * 6 प्रतिशत, लाभ
3. ✓ 2.5 प्रतिशत, लाभ
4. * ना लाभ ना हानि

Question Number : 100 Question Id : 54592745550 Question Type : MCQ Option Shuffling : Yes
Correct Marks : 1 Wrong Marks : 0.25

If $a : b = 2 : 5$ and $b : c = 4 : 3$, then what is the value of $a : b : c$?

Options :

1. ✓ 8 : 20 : 15
2. * 8 : 12 : 15
3. * 3 : 4 : 5
4. * 8 : 15 : 21

Question Number : 100 Question Id : 54592745550 Question Type : MCQ Option Shuffling : Yes
Correct Marks : 1 Wrong Marks : 0.25

यदि $a : b = 2 : 5$ तथा $b : c = 4 : 3$ है, तो $a : b : c$ का मान क्या है?

Options :

1. ✓ 8 : 20 : 15

2. ✗ 8 : 12 : 15

3. ✗ 3 : 4 : 5

4. ✗ 8 : 15 : 21

Arithmetic Ability2

Group Number :	6
Group Id :	5459272256
Group Maximum Duration :	0
Group Minimum Duration :	0
Show Attended Group? :	No
Edit Attended Group? :	No
Break time:	0
Group Marks:	20
Is this Group for Examiner? :	No
Revisit allowed for group Instructions? :	Yes
Maximum Instruction Time:	0
Minimum Instruction Time:	0

Arithmetic Ability2

Section Id :	5459272256
Section Number :	1
Section type :	Online
Mandatory or Optional:	Mandatory
Number of Questions:	20
Number of Questions to be attempted:	20
Section Marks:	20

Sub-Section Number:	1
Sub-Section Id:	5459272706
Question Shuffling Allowed :	Yes

Question Number : 101 Question Id : 5459274551 Question Type : MCQ Option Shuffling : Yes
Correct Marks : 1 Wrong Marks : 0.25

The expenditure and savings of a person are in ratio of 3 : 2. His savings increase by $\frac{1}{6}$ of his income and income remains the same. What is the new ratio of his expenditure and savings?

Options :

1. * 18 : 17

2. * 4 : 3

3. ✓ 13 : 17

4. * 9 : 13

Question Number : 101 Question Id : 54592745551 Question Type : MCQ Option Shuffling : Yes

Correct Marks : 1 Wrong Marks : 0.25

एक व्यक्ति का व्यय तथा बचत 3 : 2 के अनुपात में है। उसकी बचत उसकी आय के $\frac{1}{6}$ से बढ़ जाती है तथा आय समान रहती है। उसके व्यय तथा बचत का नया अनुपात क्या है?

Options :

1. * 18 : 17

2. * 4 : 3

3. ✓ 13 : 17

4. * 9 : 13

Question Number : 102 Question Id : 54592745552 Question Type : MCQ Option Shuffling : Yes

Correct Marks : 1 Wrong Marks : 0.25

The respective ratio of the expenditure and savings of a person is 5 : 2. His expenditure increases by $\frac{1}{7}$ of his savings and his income increases by Rs. 20. If his savings remains the same, then what is his initial expenditure?

Options :

1. * Rs. 420

2. * Rs. 370

3. ✓ Rs. 350

4. ✗ Rs. 400

Question Number : 102 Question Id : 54592745552 Question Type : MCQ Option Shuffling : Yes

Correct Marks : 1 Wrong Marks : 0.25

एक व्यक्ति का व्यय तथा बचत का क्रमशः अनुपात 5 : 2 है। उसका व्यय उसकी बचत के $\frac{1}{7}$ से बढ़ जाता है तथा उसकी आय 20 रुपये से बढ़ जाती है। यदि उसकी बचत सामान रहती है, तो उसका प्रारंभिक व्यय क्या है?

Options :

1. ✗ 420 रुपये

2. ✗ 370 रुपये

3. ✓ 350 रुपये

4. ✗ 400 रुपये

Question Number : 103 Question Id : 54592745553 Question Type : MCQ Option Shuffling : Yes

Correct Marks : 1 Wrong Marks : 0.25

A sum becomes double of itself in 2 years at the rate of simple interest. In how many years it will become 4 times of itself?

Options :

1. ✓ 6 years

2. ✗ 8 years

3. ✗ 7 years

4. ✗ 5 years

Question Number : 103 Question Id : 54592745553 Question Type : MCQ Option Shuffling : Yes

Correct Marks : 1 Wrong Marks : 0.25

एक राशि साधारण ब्याज की दर से 2 वर्षों में स्वयं का दोगुना हो जाती है। कितने वर्षों में वह स्वयं की 4 गुना हो जाएगी?

Options :

1. ✓ 6 वर्ष

2. ✖ 8 वर्ष

3. ✖ 7 वर्ष

4. ✖ 5 वर्ष

Question Number : 104 Question Id : 54592745554 Question Type : MCQ Option Shuffling : Yes
Correct Marks : 1 Wrong Marks : 0.25

A certain sum gives Rs. 8640 as the compound interest (compounding annually) at the rate of 20% per annum at the end of 3 years. What is that sum?

Note: For this question, discrepancy is found in question/answer. So, this question is ignored for all candidates.

Options :

1. Rs. 4500

2. Rs. 4800

3. Rs. 5000

4. Rs. 5200

Question Number : 104 Question Id : 54592745554 Question Type : MCQ Option Shuffling : Yes
Correct Marks : 1 Wrong Marks : 0.25

एक निश्चित राशि 3 वर्ष के अंत में 20% प्रतिवर्ष की दर से चक्रवृद्धि ब्याज (वार्षिक संयोजन पर) के रूप में 8640 रुपये देती है। वह राशि क्या है?

Note: For this question, discrepancy is found in question/answer. So, this question is ignored for all candidates.

Options :

1. 4500 रुपये

2. 4800 रुपये

3. 5000 रुपये

4. 5200 रुपये

Question Number : 105 Question Id : 54592745555 Question Type : MCQ Option Shuffling : Yes
Correct Marks : 1 Wrong Marks : 0.25

Rs. 3172 is divided into 3 parts and each part is kept at the rate of 5% per annum on simple interest for 2, 3 and 4 years respectively. The amount received after the respective time periods on each part is equal. How much money is kept for 2 years on simple interest?

Note: For this question, discrepancy is found in question/answer. So, this question is ignored for all candidates.

Options :

1. Rs. 1464
2. Rs. 1056
3. Rs. 1012
4. Rs. 1348

Question Number : 105 Question Id : 54592745555 Question Type : MCQ Option Shuffling : Yes
Correct Marks : 1 Wrong Marks : 0.25

3172 रुपये को 3 भागों में विभाजित किया गया है तथा प्रत्येक भाग को 5% प्रति वर्ष की दर से क्रमशः 2, 3 तथा 4 वर्षों के लिए साधारण ब्याज पर रखा गया है। प्रत्येक भाग पर क्रमशः समय अवधियों के पश्चात प्राप्त की गयी धनराशि समान है। 2 वर्षों के लिए साधारण ब्याज पर कितनी राशि रखी गयी है?

Note: For this question, discrepancy is found in question/answer. So, this question is ignored for all candidates.

Options :

1. 1464 रुपये
2. 1056 रुपये
3. 1012 रुपये
4. 1348 रुपये

Question Number : 106 Question Id : 54592745556 Question Type : MCQ Option Shuffling : Yes
Correct Marks : 1 Wrong Marks : 0.25

A man goes at a speed of 250 m/s. How many minutes will he take to cover a distance of 15000 metres?

Options :

1. ✓ 1

2. ✗ 1.5

3. ✗ 2

4. ✗ 0.8

Question Number : 106 Question Id : 54592745556 Question Type : MCQ Option Shuffling : Yes

Correct Marks : 1 Wrong Marks : 0.25

एक व्यक्ति 250 मी./से. की गति से जाता है। वह 15000 मीटर की दूरी तय करने में वह कितने मिनट लेगा?

Options :

1. ✓ 1

2. ✗ 1.5

3. ✗ 2

4. ✗ 0.8

Question Number : 107 Question Id : 54592745557 Question Type : MCQ Option Shuffling : Yes

Correct Marks : 1 Wrong Marks : 0.25

The speed of a boat in upstream is 4 km/hr and the speed of stream is 2 km/hr. The boat covers a distance of x km in upstream and x km in downstream. If the total time taken by the boat is 6 hours, then what is the value of x?

Options :

1. ✗ 12

2. ✗ 18

3. ✓ 16

4. ✗ 20

Question Number : 107 Question Id : 54592745557 Question Type : MCQ Option Shuffling : Yes
Correct Marks : 1 Wrong Marks : 0.25

एक नाव की गति धारा के प्रतिकूल 4 कि.मी./घंटा है तथा धारा की गति 2 कि.मी./घंटा है। नाव धारा के प्रतिकूल x कि.मी. तथा धारा के अनुकूल x कि.मी. दूरी तय करती है। यदि नाव द्वारा लिया गया कुल समय 6 घंटे है, तो x का मान क्या है?

Options :

1. ✖ 12

2. ✖ 18

3. ✔ 16

4. ✖ 20

Question Number : 108 Question Id : 54592745558 Question Type : MCQ Option Shuffling : Yes
Correct Marks : 1 Wrong Marks : 0.25

A boat travels in upstream from point A to B for 3 hours and travels in downstream from point B to C for next 3 hours. If the distance between points A and C is 42 km, then what is the speed of the boat in still water?

Options :

1. ✔ 7 km/hr

2. ✖ 18 km/hr

3. ✖ 12 km/hr

4. ✖ 15 km/hr

Question Number : 108 Question Id : 54592745558 Question Type : MCQ Option Shuffling : Yes
Correct Marks : 1 Wrong Marks : 0.25

एक नाव बिंदु A से B तक 3 घंटे के लिए धारा के प्रतिकूल यात्रा करती है तथा धारा के अनुकूल अगले 3 घंटे के लिए बिंदु B से C तक यात्रा करती है। यदि बिंदु A तथा C के मध्य की दूरी 42 कि.मी. है, तो स्थिर जल में नाव की गति क्या है?

Options :

1. ✓ 7 कि.मी./घंटा
2. ✗ 18 कि.मी./घंटा
3. ✗ 12 कि.मी./घंटा
4. ✗ 15 कि.मी./घंटा

Question Number : 109 Question Id : 54592745559 Question Type : MCQ Option Shuffling : Yes
Correct Marks : 1 Wrong Marks : 0.25

A can do a piece of work in 44 days. What fraction of the total work can be done by A in 12 days?

Options :

1. ✗ 2/11
2. ✗ 4/11
3. ✓ 3/11
4. ✗ 5/11

Question Number : 109 Question Id : 54592745559 Question Type : MCQ Option Shuffling : Yes
Correct Marks : 1 Wrong Marks : 0.25

A एक कार्य को 44 दिनों में पूरा कर सकता है। 12 दिनों में A द्वारा कुल कार्य का कितना भाग किया जा सकता है?

Options :

1. ✗ 2/11
2. ✗ 4/11
3. ✓ 3/11
4. ✗ 5/11

Question Number : 110 Question Id : 54592745560 Question Type : MCQ Option Shuffling : Yes
Correct Marks : 1 Wrong Marks : 0.25

A and B can complete a work in 16 days and B and C can complete it in 20 days. If A, B and C all work together, the work gets completed in 10 days. How many days do A and C together take to complete the work?

Options :

1. ✖ 78/7 days
2. ✖ 87/7 days
3. ✖ 65/7 days
4. ✔ 80/7 days

Question Number : 110 Question Id : 54592745560 Question Type : MCQ Option Shuffling : Yes

Correct Marks : 1 Wrong Marks : 0.25

A तथा B एक कार्य को 16 दिन में पूरा कर सकते हैं, B तथा C इसे 20 दिन में पूरा कर सकते हैं। यदि A, B तथा C तीनों मिलकर इस कार्य को करते हैं, तो कार्य 10 दिन में पूरा हो जायेगा। A तथा C साथ मिलकर कार्य को समाप्त करने में कितने दिन लेंगे?

Options :

1. ✖ 78/7 दिन
2. ✖ 87/7 दिन
3. ✖ 65/7 दिन
4. ✔ 80/7 दिन

Question Number : 111 Question Id : 54592745561 Question Type : MCQ Option Shuffling : Yes

Correct Marks : 1 Wrong Marks : 0.25

Rina, Mina and Tina work for 5, 6 and 8 days respectively and they together get Rs. 360 for their work. If the ratio of one day work of Rina, Mina and Tina is 2 : 1 : 3, then how much money does Mina get?

Options :

1. ✖ Rs. 90

2. ✓ Rs. 54

3. ✖ Rs. 72

4. ✖ Rs. 60

Question Number : 111 Question Id : 54592745561 Question Type : MCQ Option Shuffling : Yes
Correct Marks : 1 Wrong Marks : 0.25

रीना, मीना तथा टीना कार्य को क्रमशः 5, 6 तथा 8 दिन के लिए कार्य करते हैं तथा वे 360 रुपये प्राप्त करते हैं। यदि रीना, मीना तथा टीना के एक दिन के कार्य का अनुपात 2 : 1 : 3 है, तो मीना को कितने रुपये मिलते हैं?

Options :

1. ✖ 90 रुपये

2. ✓ 54 रुपये

3. ✖ 72 रुपये

4. ✖ 60 रुपये

Question Number : 112 Question Id : 54592745562 Question Type : MCQ Option Shuffling : Yes
Correct Marks : 1 Wrong Marks : 0.25

The length of the side of a hexagon is 4 cm. What is the area of the hexagon?

Options :

1. ✖ $12\sqrt{3} \text{ cm}^2$

2. ✖ $18\sqrt{3} \text{ cm}^2$

3. ✖ $20\sqrt{3} \text{ cm}^2$

4. ✓ $24\sqrt{3} \text{ cm}^2$

Question Number : 112 Question Id : 54592745562 Question Type : MCQ Option Shuffling : Yes

Correct Marks : 1 Wrong Marks : 0.25

एक षट्भुज की भुजा की लंबाई 4 से.मी. है। षट्भुज का क्षेत्रफल क्या है?

Options :

1. ✗ $12\sqrt{3} \text{ से.मी.}^2$

2. ✗ $18\sqrt{3} \text{ से.मी.}^2$

3. ✗ $20\sqrt{3} \text{ से.मी.}^2$

4. ✓ $24\sqrt{3} \text{ से.मी.}^2$

Question Number : 113 Question Id : 54592745563 Question Type : MCQ Option Shuffling : Yes

Correct Marks : 1 Wrong Marks : 0.25

The radius of a sphere is 6.3 cm. What is the volume of the sphere?

Options :

1. ✗ 1571.724 cm^3

2. ✗ 2357.856 cm^3

3. ✓ 1047.816 cm^3

4. ✖ 768.1985 cm³

Question Number : 113 Question Id : 54592745563 Question Type : MCQ Option Shuffling : Yes

Correct Marks : 1 Wrong Marks : 0.25

एक गोले की त्रिज्या 6.3 से.मी. है। गोले का आयतन क्या है?

Options :

1. ✖ 1571.724 से.मी.³

2. ✖ 2357.856 से.मी.³

3. ✔ 1047.816 से.मी.³

4. ✖ 768.1985 से.मी.³

Question Number : 114 Question Id : 54592745564 Question Type : MCQ Option Shuffling : Yes

Correct Marks : 1 Wrong Marks : 0.25

The perimeter of a square is equal to the perimeter of an equilateral triangle. If the diagonal of the square is $6\sqrt{2}$ cm long, then what is the length of the side of the equilateral triangle?

Options :

1. ✖ 6 cm

2. ✖ 12 cm

3. ✔ 8 cm

4. ✖ 24 cm

Question Number : 114 Question Id : 54592745564 Question Type : MCQ Option Shuffling : Yes

Correct Marks : 1 Wrong Marks : 0.25

एक वर्ग का परिमाण एक समबाहु त्रिभुज के परिमाण के बराबर है। यदि वर्ग का विकर्ण $6\sqrt{2}$ से.मी. लंबा है, तो समबाहु त्रिभुज की भुजा की लंबाई कितनी है?

Options :

1. ✖ 6 से.मी.
2. ✖ 12 से.मी.
3. ✔ 8 से.मी.
4. ✖ 24 से.मी.

Question Number : 115 Question Id : 54592745565 Question Type : MCQ Option Shuffling : Yes
Correct Marks : 1 Wrong Marks : 0.25

The table given below shows rainfall in a city on 7 consecutive days.

Days	Rainfall (in mm)
D1	44
D2	67
D3	36
D4	19
D5	108
D6	84
D7	96

What is the ratio of rainfall on D3 and D6?

Options :

1. ✖ 11 : 21
2. ✖ 3 : 8
3. ✔ 3 : 7
4. ✖ 1 : 3

Question Number : 115 Question Id : 54592745565 Question Type : MCQ Option Shuffling : Yes
Correct Marks : 1 Wrong Marks : 0.25

नीचे दी गयी तालिका एक शहर में लगातार 7 दिनों में हुई वर्षा को दर्शाती है।

दिन	वर्षा (एम.एम. में)
D1	44
D2	67
D3	36
D4	19
D5	108
D6	84
D7	96

D3 तथा D6 की वर्षा का अनुपात क्या है?

Options :

1. ✖ 11 : 21

2. ✖ 3 : 8

3. ✔ 3 : 7

4. ✖ 1 : 3

Question Number : 116 Question Id : 54592745566 Question Type : MCQ Option Shuffling : Yes

Correct Marks : 1 Wrong Marks : 0.25

The table given below shows the number of water bottles produced by two companies in 4 consecutive years.

Years	Company 1	Company 2
Y1	800	820
Y2	900	880
Y3	500	800
Y4	600	900

What are the average number of water bottles produced by company 1 and company 2 respectively?

Options :

1. ✖ 750, 600
2. ✖ 600, 750
3. ✔ 700, 850
4. ✖ 850, 700

Question Number : 116 Question Id : 54592745566 Question Type : MCQ Option Shuffling : Yes

Correct Marks : 1 Wrong Marks : 0.25

नीचे दी गयी तालिका 4 क्रमागत वर्षों में दो कंपनियों द्वारा उत्पादित पानी की बोतलों की संख्या को दर्शाती है।

वर्ष	कंपनी 1	कंपनी 2
Y1	800	820
Y2	900	880
Y3	500	800
Y4	600	900

क्रमशः कंपनी 1 तथा कंपनी 2 द्वारा उत्पादित पानी की बोतलों की औसत संख्या क्या हैं?

Options :

1. ✖ 750, 600

2. ✖ 600, 750

3. ✔ 700, 850

4. ✖ 850, 700

Question Number : 117 Question Id : 54592745567 Question Type : MCQ Option Shuffling : Yes

Correct Marks : 1 Wrong Marks : 0.25

The table given below shows the number of scooters produced in different years.

Years	Number of scooters
Y1	2000
Y2	2200
Y3	2300
Y4	2800

What is the percentage increase in the number of scooters produced in year Y4 from year Y1?

Options :

1. ✖ 20 percent

2. ✖ 30 percent

3. ✔ 40 percent

4. ✖ 50 percent

Question Number : 117 Question Id : 54592745567 Question Type : MCQ Option Shuffling : Yes

Correct Marks : 1 Wrong Marks : 0.25

नीचे दी गयी तालिका विभिन्न वर्षों में उत्पादित स्कूटरों की संख्या को दर्शाती है।

वर्ष	स्कूटरों की संख्या
Y1	2000
Y2	2200
Y3	2300
Y4	2800

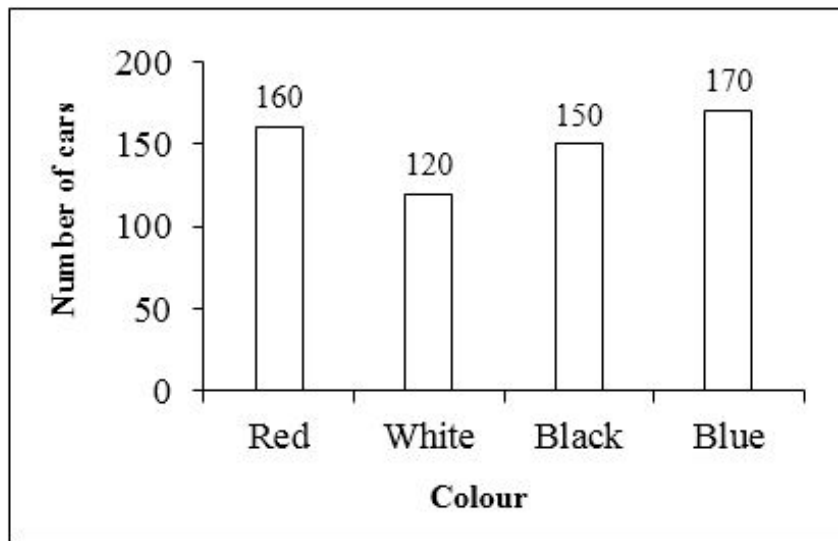
वर्ष Y4 में उत्पादित स्कूटरों की संख्या में वर्ष Y1 से कितनी प्रतिशत वृद्धि है?

Options :

1. * 20 प्रतिशत
2. * 30 प्रतिशत
3. ✓ 40 प्रतिशत
4. * 50 प्रतिशत

Question Number : 118 Question Id : 54592745568 Question Type : MCQ Option Shuffling : Yes
Correct Marks : 1 Wrong Marks : 0.25

The bar graph given below shows the number of cars of different colours in a showroom.



What are the total number of cars in the showroom?

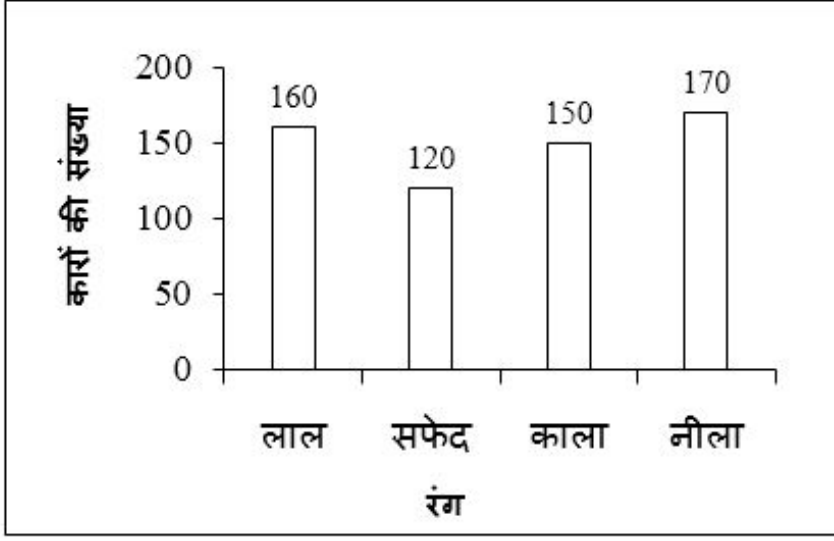
Options :

- 1. ✘ 630
- 2. ✘ 610
- 3. ✔ 600
- 4. ✘ 560

Question Number : 118 Question Id : 54592745568 Question Type : MCQ Option Shuffling : Yes

Correct Marks : 1 Wrong Marks : 0.25

नीचे दिया गया दण्ड चित्र एक शोरूम में विभिन्न रंगों की कारों की संख्या को दर्शाता है।



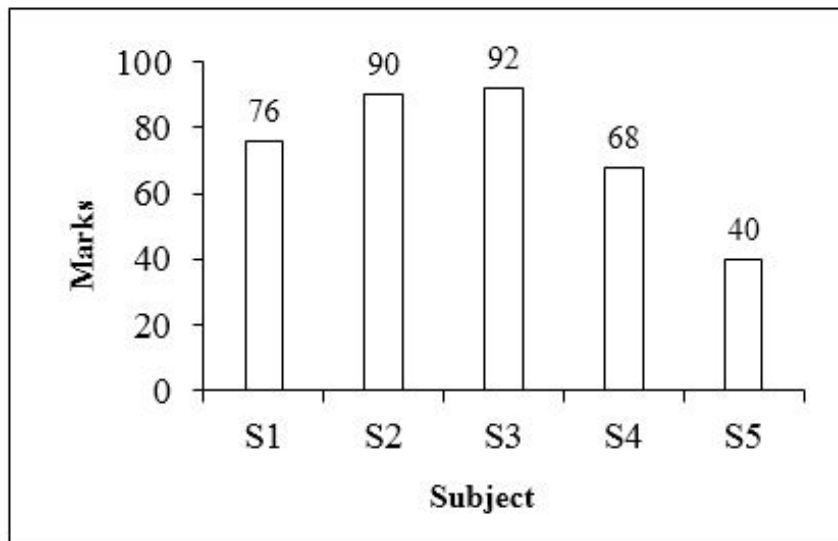
शोरूम में कारों की कुल संख्या क्या है?

Options :

1. ✘ 630
2. ✘ 610
3. ✔ 600
4. ✘ 560

Question Number : 119 Question Id : 54592745569 Question Type : MCQ Option Shuffling : Yes
Correct Marks : 1 Wrong Marks : 0.25

The bar graph given below shows the marks obtained by a student in different subjects.



What are the per subject average marks obtained by the student?

Options :

1. ✘ 72.4

2. ✘ 72.8

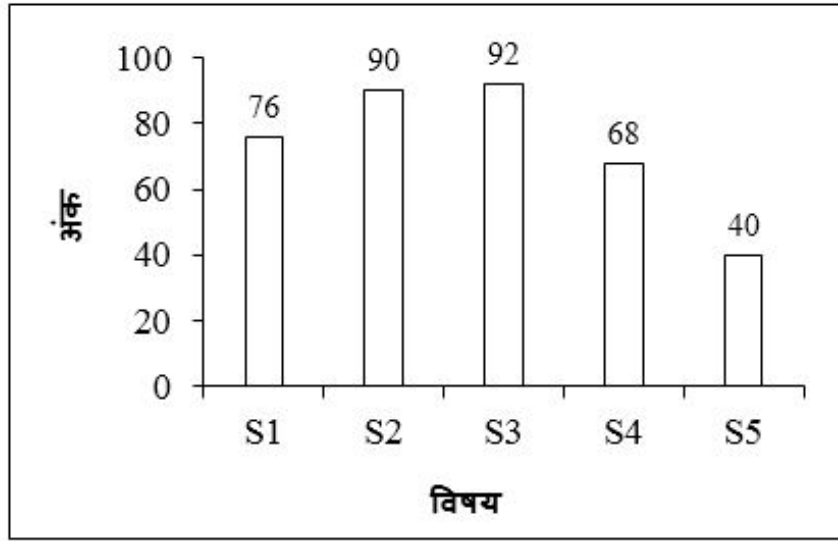
3. ✔ 73.2

4. ✘ 73.6

Question Number : 119 Question Id : 54592745569 Question Type : MCQ Option Shuffling : Yes

Correct Marks : 1 Wrong Marks : 0.25

नीचे दिया गया दण्ड चित्र एक छात्र द्वारा विभिन्न विषयों में प्राप्त अंकों को दर्शाता है।



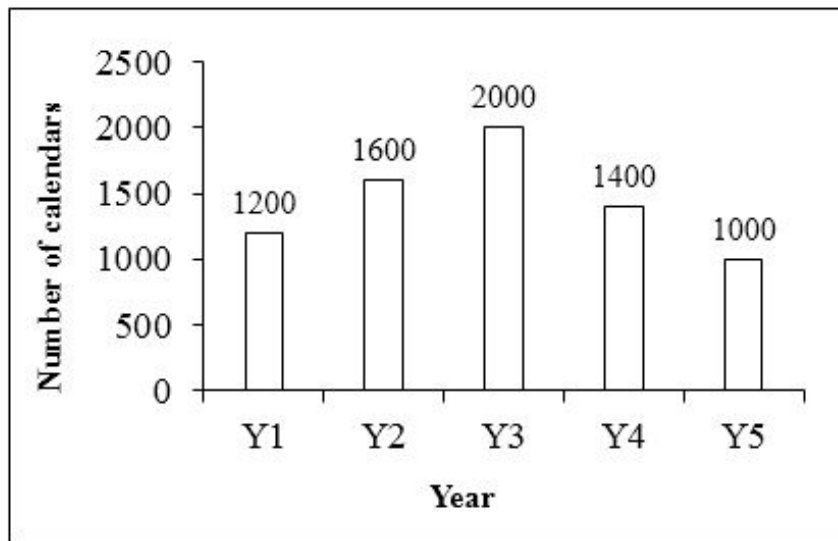
छात्र द्वारा प्राप्त प्रति विषय औसत अंक क्या है?

Options :

1. ✘ 72.4
2. ✘ 72.8
3. ✔ 73.2
4. ✘ 73.6

Question Number : 120 Question Id : 54592745570 Question Type : MCQ Option Shuffling : Yes
Correct Marks : 1 Wrong Marks : 0.25

The bar graph given below shows the number of calendars printed by a company in five consecutive years.



Number of calendars printed in year Y4 are what percentage less than the number of calendars printed in year Y2?

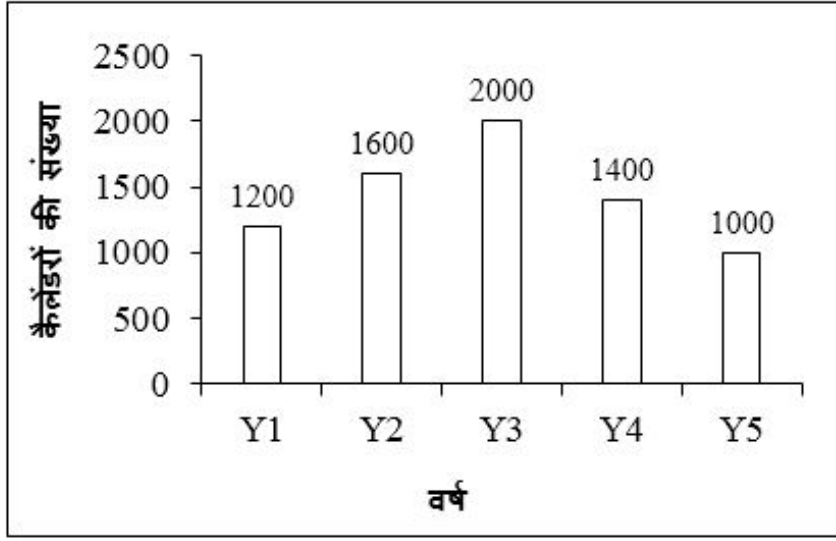
Options :

1. ✓ 12.5 percent
2. ✗ 15 percent
3. ✗ 17.5 percent
4. ✗ 20 percent

Question Number : 120 Question Id : 54592745570 Question Type : MCQ Option Shuffling : Yes

Correct Marks : 1 Wrong Marks : 0.25

नीचे दिया गया दण्ड चित्र पाँच क्रमागत वर्षों में एक कंपनी द्वारा छापे गए कैलेंडरो की संख्या को दर्शाता है।



वर्ष Y4 में छापे गए कैलेंडरो की संख्या वर्ष Y2 में छापे गए कैलेंडरो की संख्या से कितनी प्रतिशत कम है?

Options :

1. ✓ 12.5 प्रतिशत
2. ✗ 15 प्रतिशत
3. ✗ 17.5 प्रतिशत
4. ✗ 20 प्रतिशत

General English1

Group Number :	7
Group Id :	5459272257
Group Maximum Duration :	0
Group Minimum Duration :	0
Show Attended Group? :	No
Edit Attended Group? :	No
Break time:	0
Group Marks:	20
Is this Group for Examiner? :	No
Revisit allowed for group Instructions? :	Yes

Maximum Instruction Time: 0
Minimum Instruction Time: 0

General English1

Section Id : 5459272257
Section Number : 1
Section type : Online
Mandatory or Optional: Mandatory
Number of Questions: 20
Number of Questions to be attempted: 20
Section Marks: 20

Sub-Section Number: 1
Sub-Section Id: 5459272707
Question Shuffling Allowed : Yes

Question Number : 121 Question Id : 54592745571 Question Type : MCQ Option Shuffling : Yes
Correct Marks : 1 Wrong Marks : 0.25

A sentence has been given with a blank to be filled with an appropriate word. Choose the correct alternative.

She will return _____ a month.

Options :

1. ✘ between
2. ✔ within
3. ✘ since
4. ✘ by

Question Number : 121 Question Id : 54592745571 Question Type : MCQ Option Shuffling : Yes
Correct Marks : 1 Wrong Marks : 0.25

A sentence has been given with a blank to be filled with an appropriate word. Choose the correct alternative.

She will return _____ a month.

Options :

1. ✖ between

2. ✔ within

3. ✖ since

4. ✖ by

Question Number : 122 Question Id : 54592745572 Question Type : MCQ Option Shuffling : Yes

Correct Marks : 1 Wrong Marks : 0.25

A sentence has been given with a blank to be filled with an appropriate word. Choose the correct alternative.

I am _____ for your loss.

Options :

1. ✔ sorry

2. ✖ grieved

3. ✖ happy

4. ✖ content

Question Number : 122 Question Id : 54592745572 Question Type : MCQ Option Shuffling : Yes

Correct Marks : 1 Wrong Marks : 0.25

A sentence has been given with a blank to be filled with an appropriate word. Choose the correct alternative.

I am _____ for your loss.

Options :

1. ✔ sorry

2. ✖ grieved

3. ✖ happy

4. ✖ content

Question Number : 123 Question Id : 54592745573 Question Type : MCQ Option Shuffling : Yes

Correct Marks : 1 Wrong Marks : 0.25

A sentence has been given with a blank to be filled with an appropriate word. Choose the correct alternative.

I am going _____ home.

Options :

1. ✖ to

2. ✖ at

3. ✖ on

4. ✔ No preposition

Question Number : 123 Question Id : 54592745573 Question Type : MCQ Option Shuffling : Yes

Correct Marks : 1 Wrong Marks : 0.25

A sentence has been given with a blank to be filled with an appropriate word. Choose the correct alternative.

I am going _____ home.

Options :

1. ✖ to

2. ✖ at

3. ✖ on

4. ✔ No preposition

Question Number : 124 Question Id : 54592745574 Question Type : MCQ Option Shuffling : Yes

Correct Marks : 1 Wrong Marks : 0.25

A sentence has been given with a blank to be filled with an appropriate word. Choose the correct alternative.

There are not _____ oranges left.

Options :

1. ✖ much
2. ✖ more
3. ✔ many
4. ✖ much more

Question Number : 124 Question Id : 54592745574 Question Type : MCQ Option Shuffling : Yes

Correct Marks : 1 Wrong Marks : 0.25

A sentence has been given with a blank to be filled with an appropriate word. Choose the correct alternative.

There are not _____ oranges left.

Options :

1. ✖ much
2. ✖ more
3. ✔ many
4. ✖ much more

Question Number : 125 Question Id : 54592745575 Question Type : MCQ Option Shuffling : Yes

Correct Marks : 1 Wrong Marks : 0.25

A sentence has been given with a blank to be filled with an appropriate word. Choose the correct alternative.

Arjun was _____ in the robbery.

Options :

1. ✖ an adversary
2. ✔ an accomplice
3. ✖ a detractor
4. ✖ a curmudgeon

Question Number : 125 Question Id : 54592745575 Question Type : MCQ Option Shuffling : Yes
Correct Marks : 1 Wrong Marks : 0.25

A sentence has been given with a blank to be filled with an appropriate word. Choose the correct alternative.

Arjun was _____ in the robbery.

Options :

1. ✖ an adversary
2. ✔ an accomplice
3. ✖ a detractor
4. ✖ a curmudgeon

Question Number : 126 Question Id : 54592745576 Question Type : MCQ Option Shuffling : Yes
Correct Marks : 1 Wrong Marks : 0.25

A sentence has been given with a blank to be filled with an appropriate word. Choose the correct alternative.

There is no _____ on this bus.

Options :

1. ✖ place
2. ✔ room
3. ✖ vacancy
4. ✖ slot

Question Number : 126 Question Id : 54592745576 Question Type : MCQ Option Shuffling : Yes
Correct Marks : 1 Wrong Marks : 0.25

A sentence has been given with a blank to be filled with an appropriate word. Choose the correct alternative.

There is no _____ on this bus.

Options :

1. ✘ place
2. ✔ room
3. ✘ vacancy
4. ✘ slot

Question Number : 127 Question Id : 54592745577 Question Type : MCQ Option Shuffling : Yes
Correct Marks : 1 Wrong Marks : 0.25

Choose a sentence that contains an error.

- (1) Rahul was appointed the Monitor.
- (2) The Himalayas are the highest mountains in the world.
- (3) She was unpacking the luggage by herself.
- (4) Radha didn't went to Mumbai.

Options :

1. ✘ 1
2. ✘ 2
3. ✘ 3
4. ✔ 4

Question Number : 127 Question Id : 54592745577 Question Type : MCQ Option Shuffling : Yes
Correct Marks : 1 Wrong Marks : 0.25

Choose a sentence that contains an error.

- (1) Rahul was appointed the Monitor.
- (2) The Himalayas are the highest mountains in the world.
- (3) She was unpacking the luggage by herself.
- (4) Radha didn't went to Mumbai.

Options :

1. ✖ 1
2. ✖ 2
3. ✖ 3
4. ✔ 4

Question Number : 128 Question Id : 54592745578 Question Type : MCQ Option Shuffling : Yes
Correct Marks : 1 Wrong Marks : 0.25

Find the part of the given sentence that has an error in it. If there is no error, choose 'No error'.

Take rest (1)/ lest you (2)/ should fall (3)/. No error (4)

Options :

1. ✖ 1
2. ✖ 2
3. ✖ 3
4. ✔ 4

Question Number : 128 Question Id : 54592745578 Question Type : MCQ Option Shuffling : Yes
Correct Marks : 1 Wrong Marks : 0.25

Find the part of the given sentence that has an error in it. If there is no error, choose 'No error'.

Take rest (1)/ lest you (2)/ should fall (3)/. No error (4)

Options :

1. ✖ 1

2. ✖ 2

3. ✖ 3

4. ✔ 4

Question Number : 129 Question Id : 54592745579 Question Type : MCQ Option Shuffling : Yes

Correct Marks : 1 Wrong Marks : 0.25

Find the part of the given sentence that has an error in it. If there is no error, choose 'No error'.

They insisted (1)/ on me (2)/ starting at once (3)/. No error (4)

Options :

1. ✖ 1

2. ✔ 2

3. ✖ 3

4. ✖ 4

Question Number : 129 Question Id : 54592745579 Question Type : MCQ Option Shuffling : Yes

Correct Marks : 1 Wrong Marks : 0.25

Find the part of the given sentence that has an error in it.
If there is no error, choose 'No error'.

They insisted (1)/ on me (2)/ starting at once (3)/. No error
(4)

Options :

1. ✖ 1

2. ✔ 2

3. ✖ 3

4. ✖ 4

Question Number : 130 Question Id : 54592745580 Question Type : MCQ Option Shuffling : Yes

Correct Marks : 1 Wrong Marks : 0.25

In the following question, out of the given four alternatives, select the alternative which best expresses the meaning of the Idiom/Phrase.

Let sleeping dogs lie

Options :

1. ✖ To live within one's means

2. ✔ To leave a situation alone so as to avoid worsening it

3. ✖ To not disturb someone

4. ✖ To accept any criticism

Question Number : 130 Question Id : 54592745580 Question Type : MCQ Option Shuffling : Yes

Correct Marks : 1 Wrong Marks : 0.25

In the following question, out of the given four alternatives, select the alternative which best expresses the meaning of the Idiom/Phrase.

Let sleeping dogs lie

Options :

1. ✖ To live within one's means
2. ✔ To leave a situation alone so as to avoid worsening it
3. ✖ To not disturb someone
4. ✖ To accept any criticism

Question Number : 131 Question Id : 54592745581 Question Type : MCQ Option Shuffling : Yes

Correct Marks : 1 Wrong Marks : 0.25

Choose the word that can substitute the given sentence.

A critical judge of any art and craft

Options :

1. ✖ Iconoclast
2. ✖ Emigrant
3. ✔ Connoisseur
4. ✖ Fastidious

Question Number : 131 Question Id : 54592745581 Question Type : MCQ Option Shuffling : Yes

Correct Marks : 1 Wrong Marks : 0.25

Choose the word that can substitute the given sentence.

A critical judge of any art and craft

Options :

1. ✖ Iconoclast

2. ✖ Emigrant

3. ✔ Connoisseur

4. ✖ Fastidious

Question Number : 132 Question Id : 54592745582 Question Type : MCQ Option Shuffling : Yes
Correct Marks : 1 Wrong Marks : 0.25

Choose the word that can substitute the given sentence.

Place that provides refuge

Options :

1. ✔ Haven

2. ✖ Hole

3. ✖ Harbor

4. ✖ Hangar

Question Number : 132 Question Id : 54592745582 Question Type : MCQ Option Shuffling : Yes
Correct Marks : 1 Wrong Marks : 0.25

Choose the word that can substitute the given sentence.

Place that provides refuge

Options :

1. ✔ Haven

2. ✖ Hole

3. ✖ Harbor

4. ✖ Hangar

Question Number : 133 Question Id : 54592745583 Question Type : MCQ Option Shuffling : Yes
Correct Marks : 1 Wrong Marks : 0.25

Choose the word that can substitute the given sentence.

Government by mob or a mass of people

Options :

1. ✖ Monarchy
2. ✖ Theocracy
3. ✔ Ochlocracy
4. ✖ Neocracy

Question Number : 133 Question Id : 54592745583 Question Type : MCQ Option Shuffling : Yes

Correct Marks : 1 Wrong Marks : 0.25

Choose the word that can substitute the given sentence.

Government by mob or a mass of people

Options :

1. ✖ Monarchy
2. ✖ Theocracy
3. ✔ Ochlocracy
4. ✖ Neocracy

Question Number : 134 Question Id : 54592745584 Question Type : MCQ Option Shuffling : Yes

Correct Marks : 1 Wrong Marks : 0.25

Rearrange the parts of the sentence in correct order.

Australia recently

P: most companies

Q: gap reporting for

R: mandated gender pay

Options :

1. ✖ PRQ

2. ✓ RQP

3. ✗ RPQ

4. ✗ QRP

Question Number : 134 Question Id : 54592745584 Question Type : MCQ Option Shuffling : Yes
Correct Marks : 1 Wrong Marks : 0.25

Rearrange the parts of the sentence in correct order.

Australia recently

P: most companies

Q: gap reporting for

R: mandated gender pay

Options :

1. ✗ PRQ

2. ✓ RQP

3. ✗ RPQ

4. ✗ QRP

Question Number : 135 Question Id : 54592745585 Question Type : MCQ Option Shuffling : Yes
Correct Marks : 1 Wrong Marks : 0.25

In the given question, four words are given out of which one word is correctly spelt. Choose the correctly spelt word.

Options :

1. ✗ Dutyful

2. ✓ Dutiful

3. ✗ Dutyiful

4. ✗ Dutifill

Question Number : 135 Question Id : 54592745585 Question Type : MCQ Option Shuffling : Yes
Correct Marks : 1 Wrong Marks : 0.25

In the given question, four words are given out of which one word is correctly spelt. Choose the correctly spelt word.

Options :

1. ✖ Dutyful
2. ✔ Dutiful
3. ✖ Dutyiful
4. ✖ Dutifill

Question Number : 136 Question Id : 54592745586 Question Type : MCQ Option Shuffling : Yes
Correct Marks : 1 Wrong Marks : 0.25

Choose the word that is opposite in meaning to the given word.

DEFILE

Options :

1. ✖ sully
2. ✖ fall
3. ✔ upgrade
4. ✖ debase

Question Number : 136 Question Id : 54592745586 Question Type : MCQ Option Shuffling : Yes
Correct Marks : 1 Wrong Marks : 0.25

Choose the word that is opposite in meaning to the given word.

DEFILE

Options :

1. ✖ sully
2. ✖ fall

3. ✓ upgrade

4. ✗ debase

Question Number : 137 Question Id : 54592745587 Question Type : MCQ Option Shuffling : Yes
Correct Marks : 1 Wrong Marks : 0.25

Choose an odd one out:

Options :

1. ✗ entice

2. ✗ persuade

3. ✓ lovingly

4. ✗ dissuade

Question Number : 137 Question Id : 54592745587 Question Type : MCQ Option Shuffling : Yes
Correct Marks : 1 Wrong Marks : 0.25

Choose an odd one out:

Options :

1. ✗ entice

2. ✗ persuade

3. ✓ lovingly

4. ✗ dissuade

Question Number : 138 Question Id : 54592745588 Question Type : MCQ Option Shuffling : Yes
Correct Marks : 1 Wrong Marks : 0.25

Choose the word that is opposite in meaning to the given word.

MALIGN

Options :

1. ✗ defame

2. ✗ slander

3. ✖ miserable

4. ✔ benign

Question Number : 138 Question Id : 54592745588 Question Type : MCQ Option Shuffling : Yes
Correct Marks : 1 Wrong Marks : 0.25

Choose the word that is opposite in meaning to the given word.

MALIGN

Options :

1. ✖ defame

2. ✖ slander

3. ✖ miserable

4. ✔ benign

Question Number : 139 Question Id : 54592745589 Question Type : MCQ Option Shuffling : Yes
Correct Marks : 1 Wrong Marks : 0.25

Improve the bracketed part of the sentence.

They (went) to Chile three times.

Options :

1. ✔ have been

2. ✖ shall be

3. ✖ would have been

4. ✖ No Improvement

Question Number : 139 Question Id : 54592745589 Question Type : MCQ Option Shuffling : Yes
Correct Marks : 1 Wrong Marks : 0.25

Improve the bracketed part of the sentence.

They (went) to Chile three times.

Options :

1. ✓ have been
2. ✗ shall been
3. ✗ would have been
4. ✗ No Improvement

Question Number : 140 Question Id : 54592745590 Question Type : MCQ Option Shuffling : Yes
Correct Marks : 1 Wrong Marks : 0.25

Improve the bracketed part of the sentence.

She threw the bag (off) the window.

Options :

1. ✗ by
2. ✗ in
3. ✓ through
4. ✗ No Improvement

Question Number : 140 Question Id : 54592745590 Question Type : MCQ Option Shuffling : Yes
Correct Marks : 1 Wrong Marks : 0.25

Improve the bracketed part of the sentence.

She threw the bag (off) the window.

Options :

1. ✗ by
2. ✗ in

3. ✓ through

4. ✗ No Improvement

General English2

Group Number :	8
Group Id :	5459272258
Group Maximum Duration :	0
Group Minimum Duration :	0
Show Attended Group? :	No
Edit Attended Group? :	No
Break time:	0
Group Marks:	20
Is this Group for Examiner?:	No
Revisit allowed for group Instructions? :	Yes
Maximum Instruction Time:	0
Minimum Instruction Time:	0

General English2

Section Id :	5459272258
Section Number :	1
Section type :	Online
Mandatory or Optional:	Mandatory
Number of Questions:	16
Number of Questions to be attempted:	16
Section Marks:	20

Sub-Section Number:	1
Sub-Section Id:	5459272708
Question Shuffling Allowed :	Yes

Question Number : 141 Question Id : 54592745591 Question Type : MCQ Option Shuffling : Yes
Correct Marks : 1 Wrong Marks : 0.25

Improve the bracketed part of the sentence.

This shirt is (made of) silk.

Options :

1. ✗ made from

2. ✗ made by

3. ✖ made up from

4. ✔ No Improvement

Question Number : 141 Question Id : 54592745591 Question Type : MCQ Option Shuffling : Yes
Correct Marks : 1 Wrong Marks : 0.25

Improve the bracketed part of the sentence.

This shirt is (made of) silk.

Options :

1. ✖ made from

2. ✖ made by

3. ✖ made up from

4. ✔ No Improvement

Question Number : 142 Question Id : 54592745592 Question Type : MCQ Option Shuffling : Yes
Correct Marks : 1 Wrong Marks : 0.25

A sentence has been given with a blank to be filled with an appropriate word. Choose the correct alternative.

Sohan _____ finished the work.

Options :

1. ✖ shall

2. ✖ will

3. ✖ will be

4. ✔ will have

Question Number : 142 Question Id : 54592745592 Question Type : MCQ Option Shuffling : Yes
Correct Marks : 1 Wrong Marks : 0.25

A sentence has been given with a blank to be filled with an appropriate word. Choose the correct alternative.

Sohan _____ finished the work.

Options :

1. ✘ shall
2. ✘ will
3. ✘ will be
4. ✔ will have

Question Number : 143 Question Id : 54592745593 Question Type : MCQ Option Shuffling : Yes

Correct Marks : 1 Wrong Marks : 0.25

Find the part of the given sentence that has an error in it. If there is no error, choose 'No error'.

The short month (1)/ of the year (2)/ is February (3)/. No error (4)

Options :

1. ✔ 1
2. ✘ 2
3. ✘ 3
4. ✘ 4

Question Number : 143 Question Id : 54592745593 Question Type : MCQ Option Shuffling : Yes

Correct Marks : 1 Wrong Marks : 0.25

Find the part of the given sentence that has an error in it. If there is no error, choose 'No error'.

The short month (1)/ of the year (2)/ is February (3)/. No error (4)

Options :

1. ✓ 1
2. ✗ 2
3. ✗ 3
4. ✗ 4

Question Number : 144 Question Id : 54592745594 Question Type : MCQ Option Shuffling : Yes
Correct Marks : 1 Wrong Marks : 0.25

In the following question, out of the given four alternatives, select the alternative which best expresses the meaning of the Idiom/Phrase.

By hook or crook

Options :

1. ✗ A personal interest in the matter
2. ✗ A severe and conclusive test
3. ✗ To get oneself into trouble
4. ✓ By fair or foul mean

Question Number : 144 Question Id : 54592745594 Question Type : MCQ Option Shuffling : Yes
Correct Marks : 1 Wrong Marks : 0.25

In the following question, out of the given four alternatives, select the alternative which best expresses the meaning of the Idiom/Phrase.

By hook or crook

Options :

1. ✖ A personal interest in the matter
2. ✖ A severe and conclusive test
3. ✖ To get oneself into trouble
4. ✔ By fair or foul mean

Question Number : 145 Question Id : 54592745595 Question Type : MCQ Option Shuffling : Yes

Correct Marks : 1 Wrong Marks : 0.25

Rearrange the parts of the sentence in correct order.

The shop

P: itself is a

Q: mixture of

R: old and new

Options :

1. ✖ PRQ
2. ✖ RPQ
3. ✔ PQR
4. ✖ QPR

Question Number : 145 Question Id : 54592745595 Question Type : MCQ Option Shuffling : Yes

Correct Marks : 1 Wrong Marks : 0.25

Rearrange the parts of the sentence in correct order.

The shop

P: itself is a

Q: mixture of

R: old and new

Options :

1. ✖ PRQ

2. ✖ RPQ

3. ✔ PQR

4. ✖ QPR

Question Number : 146 Question Id : 54592745596 Question Type : MCQ Option Shuffling : Yes

Correct Marks : 1 Wrong Marks : 0.25

In the given question, four words are given out of which one word is correctly spelt. Choose the correctly spelt word.

Options :

1. ✔ Potato

2. ✖ Pototo

3. ✖ Patato

4. ✖ Patota

Question Number : 146 Question Id : 54592745596 Question Type : MCQ Option Shuffling : Yes

Correct Marks : 1 Wrong Marks : 0.25

In the given question, four words are given out of which one word is correctly spelt. Choose the correctly spelt word.

Options :

1. ✔ Potato

2. ✖ Pototo

3. ✖ Patato

4. ✖ Patota

Question Number : 147 Question Id : 54592745597 Question Type : MCQ Option Shuffling : Yes
Correct Marks : 1 Wrong Marks : 0.25

Choose an odd one out:

Options :

1. ✖ depart

2. ✖ abscond

3. ✔ arrest

4. ✖ flee

Question Number : 147 Question Id : 54592745597 Question Type : MCQ Option Shuffling : Yes
Correct Marks : 1 Wrong Marks : 0.25

Choose an odd one out:

Options :

1. ✖ depart

2. ✖ abscond

3. ✔ arrest

4. ✖ flee

Question Number : 148 Question Id : 54592745598 Question Type : MCQ Option Shuffling : Yes
Correct Marks : 1 Wrong Marks : 0.25

Improve the bracketed part of the sentence.

The school (is closed) on Sundays.

Options :

1. ✖ have closed

2. ✖ closes

3. ✖ will closed

4. ✔ No Improvement

Question Number : 148 Question Id : 54592745598 Question Type : MCQ Option Shuffling : Yes
Correct Marks : 1 Wrong Marks : 0.25

Improve the bracketed part of the sentence.

The school (is closed) on Sundays.

Options :

1. ✖ have closed

2. ✖ closes

3. ✖ will closed

4. ✔ No Improvement

Question Number : 149 Question Id : 54592745599 Question Type : MCQ Option Shuffling : Yes
Correct Marks : 1 Wrong Marks : 0.25

A sentence has been given with a blank to be filled with an appropriate word. Choose the correct alternative.

Honesty is _____ best policy.

Options :

1. ✖ a

2. ✔ the

3. ✖ an

4. ✖ to be

Question Number : 149 Question Id : 54592745599 Question Type : MCQ Option Shuffling : Yes
Correct Marks : 1 Wrong Marks : 0.25

A sentence has been given with a blank to be filled with an appropriate word. Choose the correct alternative.

Honesty is _____ best policy.

Options :

1. ✘ a
2. ✔ the
3. ✘ an
4. ✘ to be

Question Number : 150 Question Id : 54592745600 Question Type : MCQ Option Shuffling : Yes
Correct Marks : 1 Wrong Marks : 0.25

Find the part of the given sentence that has an error in it. If there is no error, choose 'No error'.

Maria reading (1)/ to a blind (2)/ girl every week (3)/. No error (4)

Options :

1. ✔ 1
2. ✘ 2
3. ✘ 3
4. ✘ 4

Question Number : 150 Question Id : 54592745600 Question Type : MCQ Option Shuffling : Yes
Correct Marks : 1 Wrong Marks : 0.25

Find the part of the given sentence that has an error in it. If there is no error, choose 'No error'.

Maria reading (1)/ to a blind (2)/ girl every week (3)/. No error (4)

Options :

1. ✓ 1

2. ✗ 2

3. ✗ 3

4. ✗ 4

Question Number : 151 Question Id : 54592745601 Question Type : MCQ Option Shuffling : Yes

Correct Marks : 1 Wrong Marks : 0.25

In the following question, out of the given four alternatives, select the alternative which best expresses the meaning of the Idiom/Phrase.

Under a cloud

Options :

1. ✓ Under suspicion

2. ✗ At the map distance

3. ✗ Dream about the future

4. ✗ To make no fuss

Question Number : 151 Question Id : 54592745601 Question Type : MCQ Option Shuffling : Yes

Correct Marks : 1 Wrong Marks : 0.25

In the following question, out of the given four alternatives, select the alternative which best expresses the meaning of the Idiom/Phrase.

Under a cloud

Options :

1. ✓ Under suspicion
2. ✗ At the map distance
3. ✗ Dream about the future
4. ✗ To make no fuss

Question Number : 152 Question Id : 54592745602 Question Type : MCQ Option Shuffling : Yes

Correct Marks : 1 Wrong Marks : 0.25

Rearrange the parts of the sentence in correct order.

Families are

P: than groups

Q: much more

R: of individuals

Options :

1. ✓ QPR
2. ✗ QRP
3. ✗ PRQ
4. ✗ RPQ

Question Number : 152 Question Id : 54592745602 Question Type : MCQ Option Shuffling : Yes

Correct Marks : 1 Wrong Marks : 0.25

Rearrange the parts of the sentence in correct order.

Families are

P: than groups

Q: much more

R: of individuals

Options :

1. ✓ QPR

2. ✗ QRP

3. ✗ PRQ

4. ✗ RPQ

Question Number : 153 Question Id : 54592745603 Question Type : MCQ Option Shuffling : Yes

Correct Marks : 1 Wrong Marks : 0.25

In the given question, four words are given out of which one word is correctly spelt. Choose the correctly spelt word.

Options :

1. ✗ Deying

2. ✓ Dying

3. ✗ Diuing

4. ✗ Dyeng

Question Number : 153 Question Id : 54592745603 Question Type : MCQ Option Shuffling : Yes

Correct Marks : 1 Wrong Marks : 0.25

In the given question, four words are given out of which one word is correctly spelt. Choose the correctly spelt word.

Options :

1. ✗ Deying

2. ✓ Dying

3. ✗ Diuing

4. ✗ Dyeng

Question Number : 154 Question Id : 54592745604 Question Type : MCQ Option Shuffling : Yes
Correct Marks : 1 Wrong Marks : 0.25

Choose the word that means the same as the given word.

KIDNAP

Options :

1. ✗ liberate

2. ✗ salvage

3. ✗ rescue

4. ✓ abduct

Question Number : 154 Question Id : 54592745604 Question Type : MCQ Option Shuffling : Yes
Correct Marks : 1 Wrong Marks : 0.25

Choose the word that means the same as the given word.

KIDNAP

Options :

1. ✗ liberate

2. ✗ salvage

3. ✗ rescue

4. ✓ abduct

Question Number : 155 Question Id : 54592745605 Question Type : MCQ Option Shuffling : Yes
Correct Marks : 1 Wrong Marks : 0.25

Improve the bracketed part of the sentence.

It does not take (more) to make her angry.

Options :

1. ✖ a lot more
2. ✔ much
3. ✖ much more
4. ✖ No Improvement

Question Number : 155 Question Id : 54592745605 Question Type : MCQ Option Shuffling : Yes

Correct Marks : 1 Wrong Marks : 0.25

Improve the bracketed part of the sentence.

It does not take (more) to make her angry.

Options :

1. ✖ a lot more
2. ✔ much
3. ✖ much more
4. ✖ No Improvement

Sub-Section Number:	2
Sub-Section Id:	5459272709
Question Shuffling Allowed :	Yes

Question Id : 54592745606 Question Type : COMPREHENSION Sub Question Shuffling Allowed : Yes Group Comprehension Questions : No

Question Numbers : (156 to 160)

Question Label : Comprehension

Read the following information carefully and answer the given questions.

Count Lev Nikolayevich Tolstoy, usually referred to in English as Leo Tolstoy, was a Russian writer who is regarded as one of the greatest authors of all time. He received multiple nominations for Nobel Prize in Literature every year from 1902 to 1906, and nominations for Nobel Peace Prize in 1901, 1902 and 1910, and his miss of the prize is a major Nobel Prize controversy.

Born to an aristocratic Russian family in 1828, he is best known for the novels *War and Peace* (1869) and *Anna Karenina* (1877), often cited as pinnacles of realist fiction. He first achieved literary acclaim in his twenties with his semi-autobiographical trilogy, *Childhood, Boyhood, and Youth* (1852–1856), and *Sevastopol Sketches* (1855), based upon his experiences in the Crimean War. Tolstoy's fiction includes dozens of short stories and several novellas such as *The Death of Ivan Ilyich* (1886), *Family Happiness* (1859), and *HadjiMurad* (1912). He also wrote plays and numerous philosophical essays.

In the 1870s Tolstoy experienced a profound moral crisis, followed by what he regarded as an equally profound spiritual awakening, as outlined in his non-fiction work *A Confession* (1882). His literal interpretation of the ethical teachings of Jesus, centering on the Sermon on the Mount, caused him to become a fervent Christian anarchist and pacifist. Tolstoy's ideas on nonviolent resistance, expressed in works such as *The Kingdom of God Is Within You* (1894), were to have a profound impact on such pivotal 20th-century figures as Mahatma Gandhi and Martin Luther King Jr. Tolstoy also became a dedicated advocate of Georgism, the economic philosophy of Henry George, which he incorporated into his writing, particularly *Resurrection* (1899).

Sub questions

Question Number : 156 Question Id : 54592745607 Question Type : MCQ Option Shuffling : Yes

Correct Marks : 1 Wrong Marks : 0.25

For which non fictional work is Tolstoy best known?

Options :

1. ✖ War and Peace
2. ✖ Sevastopol Sketches
3. ✖ HadjiMurad
4. ✔ A confession

Question Number : 157 Question Id : 54592745608 Question Type : MCQ Option Shuffling : Yes

Correct Marks : 1 Wrong Marks : 0.25

What is the antonym of the word 'profound'?

Options :

1. ✖ Serious
2. ✖ Subtle
3. ✔ Superficial
4. ✖ Deep

Question Number : 158 Question Id : 54592745609 Question Type : MCQ Option Shuffling : Yes

Correct Marks : 1 Wrong Marks : 0.25

In which year was his novel, Family Happiness published?

Options :

1. ✖ 1912
2. ✔ 1859
3. ✖ 1855
4. ✖ 1877

Question Number : 159 Question Id : 54592745610 Question Type : MCQ Option Shuffling : Yes

Correct Marks : 1 Wrong Marks : 0.25

Tolstoy also became a dedicated advocate of _____.

Options :

1. ✖ Anarchism

2. ✓ Georgism

3. ✗ Pacifism

4. ✗ Philosopher

Question Number : 160 Question Id : 54592745611 Question Type : MCQ Option Shuffling : Yes
Correct Marks : 1 Wrong Marks : 0.25

What is the synonym of the word ‘pinnacle’?

Options :

1. ✗ Bottom

2. ✗ Nadir

3. ✓ Apex

4. ✗ Light

Question Id : 54592745606 Question Type : COMPREHENSION Sub Question Shuffling Allowed : Yes Group Comprehension
Questions : No

Question Numbers : (156 to 160)

Question Label : Comprehension

Read the following information carefully and answer the given questions.

Count Lev Nikolayevich Tolstoy, usually referred to in English as Leo Tolstoy, was a Russian writer who is regarded as one of the greatest authors of all time. He received multiple nominations for Nobel Prize in Literature every year from 1902 to 1906, and nominations for Nobel Peace Prize in 1901, 1902 and 1910, and his miss of the prize is a major Nobel Prize controversy.

Born to an aristocratic Russian family in 1828, he is best known for the novels *War and Peace* (1869) and *Anna Karenina* (1877), often cited as pinnacles of realist fiction. He first achieved literary acclaim in his twenties with his semi-autobiographical trilogy, *Childhood*, *Boyhood*, and *Youth* (1852-1856), and *Sevastopol Sketches* (1855), based upon his experiences in the Crimean War. Tolstoy's fiction includes dozens of short stories and several novellas such as *The Death of Ivan Ilyich* (1886), *Family Happiness*(1859), and *HadjiMurad* (1912). He also wrote plays and numerous philosophical essays.

In the 1870s Tolstoy experienced a profound moral crisis, followed by what he regarded as an equally profound spiritual awakening, as outlined in his non-fiction work *A Confession* (1882). His literal interpretation of the ethical teachings of Jesus, centering on the Sermon on the Mount, caused him to become a fervent Christian anarchist and pacifist. Tolstoy's ideas on nonviolent resistance, expressed in works such as *The Kingdom of God Is Within You* (1894), were to have a profound impact on such pivotal 20th-century figures as Mahatma Gandhi and Martin Luther King Jr. Tolstoy also became a dedicated advocate of Georgism, the economic philosophy of Henry George, which he incorporated into his writing, particularly *Resurrection* (1899).

Sub questions

Question Number : 156 Question Id : 54592745607 Question Type : MCQ Option Shuffling : Yes
Correct Marks : 1 Wrong Marks : 0.25

For which non fictional work is Tolstoy best known?

Options :

1. ✘ War and Peace
2. ✘ Sevastopol Sketches
3. ✘ HadjiMurad
4. ✔ A confession

Question Number : 157 Question Id : 54592745608 Question Type : MCQ Option Shuffling : Yes
Correct Marks : 1 Wrong Marks : 0.25

What is the antonym of the word 'profound'?

Options :

1. ✘ Serious
2. ✘ Subtle
3. ✔ Superficial
4. ✘ Deep

Question Number : 158 Question Id : 54592745609 Question Type : MCQ Option Shuffling : Yes
Correct Marks : 1 Wrong Marks : 0.25

In which year was his novel, Family Happiness published?

Options :

1. ✘ 1912
2. ✔ 1859
3. ✘ 1855
4. ✘ 1877

Question Number : 159 Question Id : 54592745610 Question Type : MCQ Option Shuffling : Yes
Correct Marks : 1 Wrong Marks : 0.25

Tolstoy also became a dedicated advocate of _____.

Options :

1. ✘ Anarchism
2. ✔ Georgism
3. ✘ Pacifism
4. ✘ Philosopher

Question Number : 160 Question Id : 54592745611 Question Type : MCQ Option Shuffling : Yes
Correct Marks : 1 Wrong Marks : 0.25

What is the synonym of the word 'pinnacle'?

Options :

1. ✘ Bottom
2. ✘ Nadir
3. ✔ Apex
4. ✘ Light

General Hindi1

Group Number :	9
Group Id :	5459272259
Group Maximum Duration :	0
Group Minimum Duration :	0
Show Attended Group? :	No
Edit Attended Group? :	No
Break time:	0
Group Marks:	20
Is this Group for Examiner?:	No
Revisit allowed for group Instructions? :	Yes
Maximum Instruction Time:	0
Minimum Instruction Time:	0

General Hindi1

Section Id :	5459272259
Section Number :	1

Section type :	Online
Mandatory or Optional:	Mandatory
Number of Questions:	20
Number of Questions to be attempted:	20
Section Marks:	20

Sub-Section Number:	1
Sub-Section Id:	5459272710
Question Shuffling Allowed :	Yes

Question Number : 161 Question Id : 54592745612 Question Type : MCQ Option Shuffling : Yes
Correct Marks : 1 Wrong Marks : 0.25

दिए गए शब्द का संधि विच्छेद ज्ञात कीजिए।

भूधर्व

Options :

1. * भू + धर्व
2. * भु + उधर्व
3. * भ + उधर्व
4. ✓ भू + ऊधर्व

Question Number : 161 Question Id : 54592745612 Question Type : MCQ Option Shuffling : Yes
Correct Marks : 1 Wrong Marks : 0.25

दिए गए शब्द का संधि विच्छेद ज्ञात कीजिए।

भूधर्व

Options :

1. * भू + धर्व
2. * भु + उधर्व
3. * भ + उधर्व
4. ✓ भू + ऊधर्व

Question Number : 162 Question Id : 54592745613 Question Type : MCQ Option Shuffling : Yes
Correct Marks : 1 Wrong Marks : 0.25

दिए गए शब्दों की संधि ज्ञात कीजिए।

तपः + वन

Options :

1. * गुण
2. ✓ विसर्ग
3. * यण
4. * व्यंजन

Question Number : 162 Question Id : 54592745613 Question Type : MCQ Option Shuffling : Yes
Correct Marks : 1 Wrong Marks : 0.25

दिए गए शब्दों की संधि ज्ञात कीजिए।

तपः + वन

Options :

1. * गुण
2. ✓ विसर्ग
3. * यण
4. * व्यंजन

Question Number : 163 Question Id : 54592745614 Question Type : MCQ Option Shuffling : Yes
Correct Marks : 1 Wrong Marks : 0.25

दिए गए शब्द में किस प्रकार की संधि है ज्ञात कीजिए।

भावूदय

Options :

1. * गुण
2. ✓ दीर्घ
3. * यण
4. * वृद्धि

Question Number : 163 Question Id : 54592745614 Question Type : MCQ Option Shuffling : Yes
Correct Marks : 1 Wrong Marks : 0.25

दिए गए शब्द में किस प्रकार की संधि है ज्ञात कीजिए।

भावूदय

Options :

1. ✖ गुण
2. ✔ दीर्घ
3. ✖ यण
4. ✖ वृद्धि

Question Number : 164 Question Id : 54592745615 Question Type : MCQ Option Shuffling : Yes
Correct Marks : 1 Wrong Marks : 0.25

आराम, आमदनी और आवाज़ शब्द कौन से शब्द के उदाहरण हैं?

Options :

1. ✖ देशज
2. ✔ विदेशी
3. ✖ रूढ़
4. ✖ यौगिक

Question Number : 164 Question Id : 54592745615 Question Type : MCQ Option Shuffling : Yes
Correct Marks : 1 Wrong Marks : 0.25

आराम, आमदनी और आवाज़ शब्द कौन से शब्द के उदाहरण हैं?

Options :

1. ✖ देशज
2. ✔ विदेशी
3. ✖ रूढ़
4. ✖ यौगिक

Question Number : 165 Question Id : 54592745616 Question Type : MCQ Option Shuffling : Yes
Correct Marks : 1 Wrong Marks : 0.25

दिए गए वाक्य में उचित सर्वनाम का उपयोग करके रिक्त स्थान की पूर्ति कीजिए।

पत्नी की मृत्यु के बाद _____ सन्यास ले लिया।

Options :

1. * हमने
2. * किसका
3. * इससे
4. ✓ उन्होंने

Question Number : 165 Question Id : 54592745616 Question Type : MCQ Option Shuffling : Yes

Correct Marks : 1 Wrong Marks : 0.25

दिए गए वाक्य में उचित सर्वनाम का उपयोग करके रिक्त स्थान की पूर्ति कीजिए।

पत्नी की मृत्यु के बाद _____ सन्यास ले लिया।

Options :

1. * हमने
2. * किसका
3. * इससे
4. ✓ उन्होंने

Question Number : 166 Question Id : 54592745617 Question Type : MCQ Option Shuffling : Yes

Correct Marks : 1 Wrong Marks : 0.25

दिए गए वाक्यांश के लिए उचित शब्द का चयन कीजिए।

हाथ से लिखी पुस्तक

Options :

1. * हाथ लिखी
2. * हस्तपुस्तक
3. ✓ पांडुलिपि

4. * हस्तलिखी

Question Number : 166 Question Id : 54592745617 Question Type : MCQ Option Shuffling : Yes
Correct Marks : 1 Wrong Marks : 0.25

दिए गए वाक्यांश के लिए उचित शब्द का चयन कीजिए।

हाथ से लिखी पुस्तक

Options :

1. * हाथ लिखी
2. * हस्तपुस्तक
3. ✓ पांडुलिपि
4. * हस्तलिखी

Question Number : 167 Question Id : 54592745618 Question Type : MCQ Option Shuffling : Yes
Correct Marks : 1 Wrong Marks : 0.25

दिए गए वाक्यांश के लिए उचित शब्द का चयन कीजिए।

जो आसानी से मिले

Options :

1. * आसान
2. ✓ सुलभ
3. * सुआसान
4. * सुमिल

Question Number : 167 Question Id : 54592745618 Question Type : MCQ Option Shuffling : Yes
Correct Marks : 1 Wrong Marks : 0.25

दिए गए वाक्यांश के लिए उचित शब्द का चयन कीजिए।

जो आसानी से मिले

Options :

1. * आसान

2. ✓ सुलभ

3. ✘ सुआसान

4. ✘ सुमिल

Question Number : 168 Question Id : 54592745619 Question Type : MCQ Option Shuffling : Yes
Correct Marks : 1 Wrong Marks : 0.25

दिए गए शब्द का विलोम शब्द ज्ञात कीजिए।

विस्तार

Options :

1. ✓ संक्षिप्त

2. ✘ बड़ा

3. ✘ दीर्घ

4. ✘ फैला

Question Number : 168 Question Id : 54592745619 Question Type : MCQ Option Shuffling : Yes
Correct Marks : 1 Wrong Marks : 0.25

दिए गए शब्द का विलोम शब्द ज्ञात कीजिए।

विस्तार

Options :

1. ✓ संक्षिप्त

2. ✘ बड़ा

3. ✘ दीर्घ

4. ✘ फैला

Question Number : 169 Question Id : 54592745620 Question Type : MCQ Option Shuffling : Yes
Correct Marks : 1 Wrong Marks : 0.25

निम्नलिखित में से शुद्ध वर्तनी का चयन कीजिए।

Options :

1. ✘ वाग्वादीनी

2. ✖ वाग्वादिणी

3. ✔ वाग्वादिनी

4. ✖ वाग्वादिणि

Question Number : 169 Question Id : 54592745620 Question Type : MCQ Option Shuffling : Yes
Correct Marks : 1 Wrong Marks : 0.25

निम्नलिखित में से शुद्ध वर्तनी का चयन कीजिए।

Options :

1. ✖ वाग्वादीनी

2. ✖ वाग्वादिणी

3. ✔ वाग्वादिनी

4. ✖ वाग्वादिणि

Question Number : 170 Question Id : 54592745621 Question Type : MCQ Option Shuffling : Yes
Correct Marks : 1 Wrong Marks : 0.25

दिए गए शब्द का पर्यायवाची ज्ञात कीजिए।

श्री

Options :

1. ✔ समृद्धि

2. ✖ वृंद

3. ✖ उल्लास

4. ✖ अर्ज

Question Number : 170 Question Id : 54592745621 Question Type : MCQ Option Shuffling : Yes
Correct Marks : 1 Wrong Marks : 0.25

दिए गए शब्द का पर्यायवाची ज्ञात कीजिए।

श्री

Options :

1. ✔ समृद्धि

2. * वृंद

3. * उल्लास

4. * अर्ज

Question Number : 171 Question Id : 54592745622 Question Type : MCQ Option Shuffling : Yes
Correct Marks : 1 Wrong Marks : 0.25

निम्नलिखित में से कौन सा शब्द युग्म पुनरुक्त शब्द युग्म है?

Options :

1. * लूट - पाट

2. * हेरा - फेरी

3. * लोट - पोट

4. ✓ खट्टा - मीठा

Question Number : 171 Question Id : 54592745622 Question Type : MCQ Option Shuffling : Yes
Correct Marks : 1 Wrong Marks : 0.25

निम्नलिखित में से कौन सा शब्द युग्म पुनरुक्त शब्द युग्म है?

Options :

1. * लूट - पाट

2. * हेरा - फेरी

3. * लोट - पोट

4. ✓ खट्टा - मीठा

Question Number : 172 Question Id : 54592745623 Question Type : MCQ Option Shuffling : Yes
Correct Marks : 1 Wrong Marks : 0.25

निम्नलिखित में से कौन सा शब्द युग्म पुनरुक्त शब्द युग्म है?

Options :

1. * चुप - चाप

2. * चोर - उचक़्का

3. * जात - बिरादरी

4. ✓ मार - धाड़

Question Number : 172 Question Id : 54592745623 Question Type : MCQ Option Shuffling : Yes

Correct Marks : 1 Wrong Marks : 0.25

निम्नलिखित में से कौन सा शब्द युग्म पुनरुक्त शब्द युग्म है?

Options :

1. * चुप - चाप
2. * चोर - उचक्का
3. * जात - बिरादरी
4. ✓ मार - धाड़

Question Number : 173 Question Id : 54592745624 Question Type : MCQ Option Shuffling : Yes

Correct Marks : 1 Wrong Marks : 0.25

दिए गए वाक्य में उपयुक्त शब्द का चयन करके रिक्त स्थान की पूर्ति कीजिए।

सुबह होते ही चिड़ियाँ _____ लगती हैं।

Options :

1. * गाने
2. ✓ चहचहाने
3. * भौकने
4. * मिमियाने

Question Number : 173 Question Id : 54592745624 Question Type : MCQ Option Shuffling : Yes

Correct Marks : 1 Wrong Marks : 0.25

दिए गए वाक्य में उपयुक्त शब्द का चयन करके रिक्त स्थान की पूर्ति कीजिए।

सुबह होते ही चिड़ियाँ _____ लगती हैं।

Options :

1. * गाने
2. ✓ चहचहाने
3. * भौकने

4. * मिमियाने

Question Number : 174 Question Id : 54592745625 Question Type : MCQ Option Shuffling : Yes
Correct Marks : 1 Wrong Marks : 0.25

दिए गए शब्द का विलोम शब्द ज्ञात कीजिए।

अमावस्या

Options :

1. * ज्येष्ठ
2. * ऐहिक
3. * अकथ्य
4. ✓ पूर्णमासी

Question Number : 174 Question Id : 54592745625 Question Type : MCQ Option Shuffling : Yes
Correct Marks : 1 Wrong Marks : 0.25

दिए गए शब्द का विलोम शब्द ज्ञात कीजिए।

अमावस्या

Options :

1. * ज्येष्ठ
2. * ऐहिक
3. * अकथ्य
4. ✓ पूर्णमासी

Question Number : 175 Question Id : 54592745626 Question Type : MCQ Option Shuffling : Yes
Correct Marks : 1 Wrong Marks : 0.25

दिए गए शब्द का समानार्थी शब्द ज्ञात कीजिए।

समीचीन

Options :

1. * अचरज

2. ✓ वाजिब

3. ✖ आभा

4. ✖ रिसाला

Question Number : 175 Question Id : 54592745626 Question Type : MCQ Option Shuffling : Yes
Correct Marks : 1 Wrong Marks : 0.25

दिए गए शब्द का समानार्थी शब्द ज्ञात कीजिए।

समीचीन

Options :

1. ✖ अचरज

2. ✓ वाजिब

3. ✖ आभा

4. ✖ रिसाला

Question Number : 176 Question Id : 54592745627 Question Type : MCQ Option Shuffling : Yes
Correct Marks : 1 Wrong Marks : 0.25

दिए गए वाक्य में उचित परसर्ग का चयन करके रिक्त स्थान की पूर्ति कीजिए।

दिनेश, आज मेरी बहन _____ जन्मदिन है।

Options :

1. ✖ की

2. ✓ का

3. ✖ से

4. ✖ में

Question Number : 176 Question Id : 54592745627 Question Type : MCQ Option Shuffling : Yes
Correct Marks : 1 Wrong Marks : 0.25

दिए गए वाक्य में उचित परसर्ग का चयन करके रिक्त स्थान की पूर्ति कीजिए।

दिनेश, आज मेरी बहन _____ जन्मदिन है।

Options :

1. ✖ की
2. ✔ का
3. ✖ से
4. ✖ में

Question Number : 177 Question Id : 54592745628 Question Type : MCQ Option Shuffling : Yes
Correct Marks : 1 Wrong Marks : 0.25

दिए गए वाक्य में कोष्ठक भाग का सही कारक ज्ञात कीजिए।

पुरानी (हवेली में) एक बूढ़ी औरत रहती थी।

Options :

1. ✔ अधिकरण
2. ✖ कर्ता
3. ✖ करण
4. ✖ संबोधन

Question Number : 177 Question Id : 54592745628 Question Type : MCQ Option Shuffling : Yes
Correct Marks : 1 Wrong Marks : 0.25

दिए गए वाक्य में कोष्ठक भाग का सही कारक ज्ञात कीजिए।

पुरानी (हवेली में) एक बूढ़ी औरत रहती थी।

Options :

1. ✔ अधिकरण
2. ✖ कर्ता

3. ✖ करण

4. ✖ संबोधन

Question Number : 178 Question Id : 54592745629 Question Type : MCQ Option Shuffling : Yes

Correct Marks : 1 Wrong Marks : 0.25

निम्नलिखित में से कौन सा शब्द स्त्रीलिंग है?

Options :

1. ✖ सौंदर्य

2. ✔ आत्मा

3. ✖ पर्वत

4. ✖ घी

Question Number : 178 Question Id : 54592745629 Question Type : MCQ Option Shuffling : Yes

Correct Marks : 1 Wrong Marks : 0.25

निम्नलिखित में से कौन सा शब्द स्त्रीलिंग है?

Options :

1. ✖ सौंदर्य

2. ✔ आत्मा

3. ✖ पर्वत

4. ✖ घी

Question Number : 179 Question Id : 54592745630 Question Type : MCQ Option Shuffling : Yes

Correct Marks : 1 Wrong Marks : 0.25

दिए गए शब्द का बहुवचन ज्ञात कीजिए।

गुरु

Options :

1. ✖ गुरु जी

2. ✖ गुरो

3. ✖ गुरुवृंद

4. ✔ गुरुजन

Question Number : 179 Question Id : 54592745630 Question Type : MCQ Option Shuffling : Yes
Correct Marks : 1 Wrong Marks : 0.25

दिए गए शब्द का बहुवचन ज्ञात कीजिए।

गुरु

Options :

1. ✖ गुरु जी
2. ✖ गुरो
3. ✖ गुरुवृंद
4. ✔ गुरुजन

Question Number : 180 Question Id : 54592745631 Question Type : MCQ Option Shuffling : Yes
Correct Marks : 1 Wrong Marks : 0.25

दिए गए शब्द का बहुवचन ज्ञात कीजिए।

आप

Options :

1. ✔ आप लोग
2. ✖ आप जन
3. ✖ आपगण
4. ✖ आपवर्ग

Question Number : 180 Question Id : 54592745631 Question Type : MCQ Option Shuffling : Yes
Correct Marks : 1 Wrong Marks : 0.25

दिए गए शब्द का बहुवचन ज्ञात कीजिए।

आप

Options :

1. ✔ आप लोग
2. ✖ आप जन

3. * आपगण

4. * आपवर्ग

General Hindi2

Group Number :	10
Group Id :	5459272260
Group Maximum Duration :	0
Group Minimum Duration :	120
Show Attended Group? :	No
Edit Attended Group? :	No
Break time:	0
Group Marks:	20
Is this Group for Examiner? :	No
Revisit allowed for group Instructions? :	Yes
Maximum Instruction Time:	0
Minimum Instruction Time:	0

General Hindi2

Section Id :	5459272260
Section Number :	1
Section type :	Online
Mandatory or Optional:	Mandatory
Number of Questions:	16
Number of Questions to be attempted:	16
Section Marks:	20

Sub-Section Number:	1
Sub-Section Id:	5459272711
Question Shuffling Allowed :	Yes

Question Number : 181 Question Id : 54592745632 Question Type : MCQ Option Shuffling : Yes

Correct Marks : 1 Wrong Marks : 0.25

निम्नलिखित में से शुद्ध वाक्य का चयन कीजिए।

Options :

1. * मैंने पेन लाना भूल गया।

2. * आज हम चाय नहीं पिए।

3. ✓ हम बाजार गए, कुछ किताबें खरीदीं और वापस आ गए।

4. * हम आपसे पहले ही कहे थे कि मदन चोरी नहीं किया।

Question Number : 181 Question Id : 54592745632 Question Type : MCQ Option Shuffling : Yes
Correct Marks : 1 Wrong Marks : 0.25

निम्नलिखित में से शुद्ध वाक्य का चयन कीजिए।

Options :

1. * मैंने पेन लाना भूल गया।
2. * आज हम चाय नहीं पिए।
3. ✓ हम बाजार गए, कुछ किताबें खरीदीं और वापस आ गए।
4. * हम आपसे पहले ही कहे थे कि मदन चोरी नहीं किया।

Question Number : 182 Question Id : 54592745633 Question Type : MCQ Option Shuffling : Yes
Correct Marks : 1 Wrong Marks : 0.25

निम्नलिखित में से कौन सा वाक्य सरल वाक्य नहीं है?

Options :

1. * हम लोग कॉफी पीने रेस्ट्रॉ में गए।
2. * सूरज ढलने पर अँधेरा हो गया।
3. ✓ मेरे सिर में दर्द था इसलिए मैं चुप रहा।
4. * कमरे में बैठे लोग अब ऊब चुके हैं।

Question Number : 182 Question Id : 54592745633 Question Type : MCQ Option Shuffling : Yes
Correct Marks : 1 Wrong Marks : 0.25

निम्नलिखित में से कौन सा वाक्य सरल वाक्य नहीं है?

Options :

1. * हम लोग कॉफी पीने रेस्ट्रॉ में गए।
2. * सूरज ढलने पर अँधेरा हो गया।
3. ✓ मेरे सिर में दर्द था इसलिए मैं चुप रहा।
4. * कमरे में बैठे लोग अब ऊब चुके हैं।

Question Number : 183 Question Id : 54592745634 Question Type : MCQ Option Shuffling : Yes
Correct Marks : 1 Wrong Marks : 0.25

दिए गए वाक्य में कोष्ठक भाग का काल ज्ञात कीजिए।

पिता जी घर (आते होंगे)।

Options :

1. ✓ संदिग्ध वर्तमान
2. ✗ संभाव्य भविष्यत
3. ✗ सामान्य वर्तमान
4. ✗ संदिग्ध भूतकाल

Question Number : 183 Question Id : 54592745634 Question Type : MCQ Option Shuffling : Yes
Correct Marks : 1 Wrong Marks : 0.25

दिए गए वाक्य में कोष्ठक भाग का काल ज्ञात कीजिए।

पिता जी घर (आते होंगे)।

Options :

1. ✓ संदिग्ध वर्तमान
2. ✗ संभाव्य भविष्यत
3. ✗ सामान्य वर्तमान
4. ✗ संदिग्ध भूतकाल

Question Number : 184 Question Id : 54592745635 Question Type : MCQ Option Shuffling : Yes
Correct Marks : 1 Wrong Marks : 0.25

दिए गए वाक्य के वाच्य की पहचान कीजिए।

बच्चे से बैठा नहीं जाता।

Options :

1. ✓ भाववाच्य
2. ✗ कर्तवाच्य
3. ✗ कर्मवाच्य
4. ✗ निजवाच्य

Question Number : 184 Question Id : 54592745635 Question Type : MCQ Option Shuffling : Yes
Correct Marks : 1 Wrong Marks : 0.25

दिए गए वाक्य के वाच्य की पहचान कीजिए।

बच्चे से बैठा नहीं जाता।

Options :

1. ✓ भाववाच्य
2. ✘ कर्तवाच्य
3. ✘ कर्मवाच्य
4. ✘ निजवाच्य

Question Number : 185 Question Id : 54592745636 Question Type : MCQ Option Shuffling : Yes
Correct Marks : 1 Wrong Marks : 0.25

दिए गए वाक्य का पक्ष ज्ञात कीजिए।

वह दिन भर मेहनत करता था तब सफल हुआ।

Options :

1. ✓ अभ्यासदयोतक
2. ✘ प्रगतिबोधक
3. ✘ नित्यतादयोतक
4. ✘ सातप्यबोधक

Question Number : 185 Question Id : 54592745636 Question Type : MCQ Option Shuffling : Yes
Correct Marks : 1 Wrong Marks : 0.25

दिए गए वाक्य का पक्ष ज्ञात कीजिए।

वह दिन भर मेहनत करता था तब सफल हुआ।

Options :

1. ✓ अभ्यासदयोतक
2. ✘ प्रगतिबोधक

3. * नित्यतादयोतक

4. * सातप्यबोधक

Question Number : 186 Question Id : 54592745637 Question Type : MCQ Option Shuffling : Yes

Correct Marks : 1 Wrong Marks : 0.25

दिए गए वाक्य की वृत्ति ज्ञात कीजिए।

तुम्हें गाड़ी बिल्कुल नहीं मिलेगी।

Options :

1. ✓ निश्चियार्थक

2. * संकेतार्थक

3. * सभांवनार्थक

4. * बाध्यता सूचक

Question Number : 186 Question Id : 54592745637 Question Type : MCQ Option Shuffling : Yes

Correct Marks : 1 Wrong Marks : 0.25

दिए गए वाक्य की वृत्ति ज्ञात कीजिए।

तुम्हें गाड़ी बिल्कुल नहीं मिलेगी।

Options :

1. ✓ निश्चियार्थक

2. * संकेतार्थक

3. * सभांवनार्थक

4. * बाध्यता सूचक

Question Number : 187 Question Id : 54592745638 Question Type : MCQ Option Shuffling : Yes

Correct Marks : 1 Wrong Marks : 0.25

दिए गए वाक्य का पुरुष ज्ञात कीजिए।

वह किताब पढ़ रहा है।

Options :

1. * प्रथम
2. * उत्तम
3. * मध्यम
4. ✓ अन्य

Question Number : 187 Question Id : 54592745638 Question Type : MCQ Option Shuffling : Yes
Correct Marks : 1 Wrong Marks : 0.25

दिए गए वाक्य का पुरुष ज्ञात कीजिए।

वह किताब पढ़ रहा है।

Options :

1. * प्रथम
2. * उत्तम
3. * मध्यम
4. ✓ अन्य

Question Number : 188 Question Id : 54592745639 Question Type : MCQ Option Shuffling : Yes
Correct Marks : 1 Wrong Marks : 0.25

निम्नलिखित प्रश्न में, दिए गए चार विकल्पों में से, उस विकल्प का चयन करें जो दिए गए मुहावरे के अर्थ को सर्वश्रेष्ठ रूप से व्यक्त करता है।

हाथ तोड़ना

Options :

1. * लड़ाई करना।
2. * किए का फल भोगना ही पड़ता है।
3. * तुरंत दान ही करना उत्तम माना गया है।
4. ✓ असहाय कर देना।

Question Number : 188 Question Id : 54592745639 Question Type : MCQ Option Shuffling : Yes
Correct Marks : 1 Wrong Marks : 0.25

निम्नलिखित प्रश्न में, दिए गए चार विकल्पों में से, उस विकल्प का चयन करें जो दिए गए मुहावरे के अर्थ को सर्वश्रेष्ठ रूप से व्यक्त करता है।

हाथ तोड़ना

Options :

1. * लड़ाई करना।
2. * किए का फल भोगना ही पड़ता है।
3. * तुरंत दान ही करना उत्तम माना गया है।
4. ✓ असहाय कर देना।

Question Number : 189 Question Id : 54592745640 Question Type : MCQ Option Shuffling : Yes

Correct Marks : 1 Wrong Marks : 0.25

निम्नलिखित प्रश्न में, दिए गए चार विकल्पों में से, उस विकल्प का चयन करें जो दिए गए मुहावरे के अर्थ को सर्वश्रेष्ठ रूप से व्यक्त करता है।

यह मुँह और रमसूर की दाल

Options :

1. * अयोग्य शासक और बुद्ध प्रजा
2. * बिल्कुल अनपढ़ होना।
3. ✓ योग्यता से अधिक पाने का इच्छुका
4. * अपने पास की वस्तु महत्वहीन समझी जाती है।

Question Number : 189 Question Id : 54592745640 Question Type : MCQ Option Shuffling : Yes

Correct Marks : 1 Wrong Marks : 0.25

निम्नलिखित प्रश्न में, दिए गए चार विकल्पों में से, उस विकल्प का चयन करें जो दिए गए मुहावरे के अर्थ को सर्वश्रेष्ठ रूप से व्यक्त करता है।

यह मुँह और रमसूर की दाल

Options :

1. * अयोग्य शासक और बुद्धु प्रजा
2. * बिल्कुल अनपढ़ होना।
3. ✓ योग्यता से अधिक पाने का इच्छुक।
4. * अपने पास की वस्तु महत्वहीन समझी जाती है।

Question Number : 190 Question Id : 54592745641 Question Type : MCQ Option Shuffling : Yes

Correct Marks : 1 Wrong Marks : 0.25

निम्नलिखित प्रश्न में, दिए गए चार विकल्पों में से, उस विकल्प का चयन करें जो दिए गए मुहावरे के अर्थ को सर्वश्रेष्ठ रूप से व्यक्त करता है।

लगाम कड़ी करना

Options :

1. ✓ संचालन एवं नियंत्रण में सख्ती दिखाना।
2. * हर स्थिति में एक समान रहना।
3. * दुष्ट व्यक्ति सजा से ही डरते हैं।
4. * छल कपट करना।

Question Number : 190 Question Id : 54592745641 Question Type : MCQ Option Shuffling : Yes

Correct Marks : 1 Wrong Marks : 0.25

निम्नलिखित प्रश्न में, दिए गए चार विकल्पों में से, उस विकल्प का चयन करें जो दिए गए मुहावरे के अर्थ को सर्वश्रेष्ठ रूप से व्यक्त करता है।

लगाम कड़ी करना

Options :

1. ✓ संचालन एवं नियंत्रण में सख्ती दिखाना।
2. ✘ हर स्थिति में एक समान रहना।
3. ✘ दुष्ट व्यक्ति सजा से ही डरते हैं।
4. ✘ छल कपट करना।

Question Number : 191 Question Id : 54592745642 Question Type : MCQ Option Shuffling : Yes
Correct Marks : 1 Wrong Marks : 0.25

निम्नलिखित प्रश्न में, दिए गए चार विकल्पों में से, उस विकल्प का चयन करें जो दिए गए मुहावरे के अर्थ को सर्वश्रेष्ठ रूप से व्यक्त करता है।

वेद वाक्य बनाना

Options :

1. ✘ खाने का लालच होना।
2. ✘ भले काम में विघ्न पड़ना।
3. ✘ ठगने के लिए झूठी आशा दिलाना।
4. ✓ अखंडनीय बात

Question Number : 191 Question Id : 54592745642 Question Type : MCQ Option Shuffling : Yes
Correct Marks : 1 Wrong Marks : 0.25

निम्नलिखित प्रश्न में, दिए गए चार विकल्पों में से, उस विकल्प का चयन करें जो दिए गए मुहावरे के अर्थ को सर्वश्रेष्ठ रूप से व्यक्त करता है।

वेद वाक्य बनाना

Options :

1. * खाने का लालच होना।
2. * भले काम में विघ्न पड़ना।
3. * ठगने के लिए झूठी आशा दिलाना।
4. ✓ अखंडनीय बात

Question Number : 192 Question Id : 54592745643 Question Type : MCQ Option Shuffling : Yes
Correct Marks : 1 Wrong Marks : 0.25

दिए गए शब्दों के समूह के लिए सही मुहावरे का चयन कीजिए।

मन की बात जान लेना।

Options :

1. * तबले की बला बंदर के सिर
2. ✓ उड़ती चिड़िया के पर गिनना
3. * चोर की दाढ़ी में तिनका
4. * जल में रहकर मगर से बैर

Question Number : 192 Question Id : 54592745643 Question Type : MCQ Option Shuffling : Yes
Correct Marks : 1 Wrong Marks : 0.25

दिए गए शब्दों के समूह के लिए सही मुहावरे का चयन कीजिए।

मन की बात जान लेना।

Options :

1. * तबले की बला बंदर के सिर

2. ✓ उड़ती चिड़िया के पर गिनना

3. * चोर की दाढ़ी में तिनका

4. * जल में रहकर मगर से बैर

Question Number : 193 Question Id : 54592745644 Question Type : MCQ Option Shuffling : Yes
Correct Marks : 1 Wrong Marks : 0.25

दिए गए वाक्य के लिए सही लोकोक्ति का चयन करके रिक्त स्थान की पूर्ति कीजिए।

बारात के समय से पहले आ जाने के कारण सबके _____।

Options :

1. ✓ हाथ पाँव फूल गए

2. * हाथ मलते रह गए

3. * हाथ पाँव मारते रह गए

4. * हाथ धोकर पीछे पड़ गए

Question Number : 193 Question Id : 54592745644 Question Type : MCQ Option Shuffling : Yes
Correct Marks : 1 Wrong Marks : 0.25

दिए गए वाक्य के लिए सही लोकोक्ति का चयन करके रिक्त स्थान की पूर्ति कीजिए।

बारात के समय से पहले आ जाने के कारण सबके _____।

Options :

1. ✓ हाथ पाँव फूल गए

2. * हाथ मलते रह गए

3. * हाथ पाँव मारते रह गए

4. * हाथ धोकर पीछे पड़ गए

Question Number : 194 Question Id : 54592745645 Question Type : MCQ Option Shuffling : Yes
Correct Marks : 1 Wrong Marks : 0.25

दिए गए वाक्य में किस विराम चिह्न का उपयोग किया जाएगा ज्ञात कीजिए।

वाह क्या खूब कैच किया।

Options :

1. * " "
2. * ?
3. ✓ !
4. * ,

Question Number : 194 Question Id : 54592745645 Question Type : MCQ Option Shuffling : Yes

Correct Marks : 1 Wrong Marks : 0.25

दिए गए वाक्य में किस विराम चिह्न का उपयोग किया जाएगा ज्ञात कीजिए।

वाह क्या खूब कैच किया।

Options :

1. * " "
2. * ?
3. ✓ !
4. * ,

Question Number : 195 Question Id : 54592745646 Question Type : MCQ Option Shuffling : Yes

Correct Marks : 1 Wrong Marks : 0.25

हर्ष व्यक्त करने के लिए किस चिह्न का प्रयोग किया जाता है?

Options :

1. * योजक
2. ✓ विस्मयसूचक
3. * अर्धविराम
4. * निर्देशक

हर्ष व्यक्त करने के लिए किस चिह्न का प्रयोग किया जाता है?

Options :

1. ✖ योजक
2. ✔ विस्मयसूचक
3. ✖ अर्धविराम
4. ✖ निर्देशक

Sub-Section Number: 2
Sub-Section Id: 5459272712
Question Shuffling Allowed : Yes

Question Id : 54592745647 Question Type : COMPREHENSION Sub Question Shuffling Allowed : Yes Group Comprehension Questions : No

Question Numbers : (196 to 200)

Question Label : Comprehension

गद्यांश को ध्यानपूर्वक पढ़ें तथा प्रत्येक प्रश्न में चार विकल्पों में से सही विकल्प चुने।

भारत अपनी प्राकृतिक संपदा के लिए पूरे संसार में विशेष महत्व रखता है। कितने सौभाग्यशाली हैं हम कि हमने इस महान धरती पर जन्म लिया। प्रकृति ने क्या कुछ नहीं दिया। हर प्रकार की जलवायु, मैदान, पठार, समुद्र, मरुस्थल और विविध तरह की भोजन सामग्री किसी चीज की कमी नहीं है। यही वह भूमि है जिसने अपने ज्ञान से संपूर्ण विश्व को प्रकाशित किया। इसे सोने की चिड़िया भी कहा गया पर कहां उड़ गई हमारी सोने की चिड़िया। कोई बात नहीं जो नीचे गिरता है, उन्हें ऊपर उठने का मौका भी मिलता है। यह देश चरित्र निर्माण का देश रहा है। भाई-भतीजावाद से मुक्त होकर गांधी के सत्य और अहिंसा के मार्ग पर चलें। देश में फिर गांधी, सुभाष चंद्र बोस, सरदार पटेल, बाल गंगाधर तिलक और जवाहरलाल नेहरू जैसे नेताओं की जरूरत होगी। इस धरती ने सभी धर्मों को सम्मान दिया है और पवित्र माना है। मेरे सपनों का भारत यह ताज फिर से ग्रहण करेगा। कुछ स्वार्थी लोगों ने सांप्रदायिकता की आड़ में हमारी मजबूत नींव को हिलाने का प्रयास किया है पर हम नौजवान ऐसी कोशिशों को बेकार साबित करेंगे इस धरती पर तरह तरह के फूल खिलेंगे।

Sub questions

Question Number : 196 Question Id : 54592745648 Question Type : MCQ Option Shuffling : Yes
Correct Marks : 1 Wrong Marks : 0.25

हम क्यों सौभाग्यशाली हैं?

Options :

1. ✓ भारत में पैदा हुए
2. * सोने की चिड़िया है
3. * धरती पर पैदा हुए
4. * मनुष्य बनकर पैदा हुए

Question Number : 197 Question Id : 54592745649 Question Type : MCQ Option Shuffling : Yes
Correct Marks : 1 Wrong Marks : 0.25

इस धरती ने किस को सम्मान दिया है?

Options :

1. ✓ धर्मों को
2. * आतंकवाद को
3. * ताज को
4. * निर्माण को

Question Number : 198 Question Id : 54592745650 Question Type : MCQ Option Shuffling : Yes
Correct Marks : 1 Wrong Marks : 0.25

हम नौजवान क्या करेंगे?

Options :

1. * ताज पहनाएंगे
2. * झंडा फहरायेंगे
3. ✓ सांप्रदायिकता को हटायेंगे
4. * पशुयुक्त देश बनायेंगे

Question Number : 199 Question Id : 54592745651 Question Type : MCQ Option Shuffling : Yes
Correct Marks : 1 Wrong Marks : 0.25

उपर्युक्त गद्यांश का शीर्षक क्या है?

Options :

1. * सोने की चिड़िया
2. * भारत और सांप्रदायिकता

3. * नेताओं का अमृत

4. ✓ मेरा सपनों का भारत

Question Number : 200 Question Id : 54592745652 Question Type : MCQ Option Shuffling : Yes

Correct Marks : 1 Wrong Marks : 0.25

हमें किस से मुक्त होना चाहिए?

Options :

1. ✓ भाई - भतीजावाद

2. * सत्य

3. * अहिंसा

4. * ताज

Question Id : 54592745647 Question Type : COMPREHENSION Sub Question Shuffling Allowed : Yes Group Comprehension Questions : No

Question Numbers : (196 to 200)

Question Label : Comprehension

गद्यांश को ध्यानपूर्वक पढ़ें तथा प्रत्येक प्रश्न में चार विकल्पों में से सही विकल्प चुने।

भारत अपनी प्राकृतिक संपदा के लिए पूरे संसार में विशेष महत्व रखता है। कितने सौभाग्यशाली हैं हम कि हमने इस महान धरती पर जन्म लिया। प्रकृति ने क्या कुछ नहीं दिया। हर प्रकार की जलवायु, मैदान, पठार, समुद्र, मरुस्थल और विविध तरह की भोजन सामग्री किसी चीज की कमी नहीं है। यही वह भूमि है जिसने अपने ज्ञान से संपूर्ण विश्व को प्रकाशित किया। इसे सोने की चिड़िया भी कहा गया पर कहां उड़ गई हमारी सोने की चिड़िया। कोई बात नहीं जो नीचे गिरता है, उन्हें ऊपर उठने का मौका भी मिलता है। यह देश चरित्र निर्माण का देश रहा है। भाई-भतीजावाद से मुक्त होकर गांधी के सत्य और अहिंसा के मार्ग पर चलें। देश में फिर गांधी, सुभाष चंद्र बोस, सरदार पटेल, बाल गंगाधर तिलक और जवाहरलाल नेहरू जैसे नेताओं की जरूरत होगी। इस धरती ने सभी धर्मों को सम्मान दिया है और पवित्र माना है। मेरे सपनों का भारत यह ताज फिर से ग्रहण करेगा। कुछ स्वार्थी लोगों ने सांप्रदायिकता की आड़ में हमारी मजबूत नींव को हिलाने का प्रयास किया है पर हम नौजवान ऐसी कोशिशों को बेकार साबित करेंगे इस धरती पर तरह तरह के फूल खिलेंगे।

Sub questions

Question Number : 196 Question Id : 54592745648 Question Type : MCQ Option Shuffling : Yes
Correct Marks : 1 Wrong Marks : 0.25

हम क्यों सौभाग्यशाली हैं?

Options :

1. ✓ भारत में पैदा हुए
2. * सोने की चिड़िया है

3. * धरती पर पैदा हुए

4. * मनुष्य बनकर पैदा हुए

Question Number : 197 Question Id : 54592745649 Question Type : MCQ Option Shuffling : Yes

Correct Marks : 1 Wrong Marks : 0.25

इस धरती ने किस को सम्मान दिया है?

Options :

1. ✓ धर्मों को

2. * आतंकवाद को

3. * ताज को

4. * निर्माण को

Question Number : 198 Question Id : 54592745650 Question Type : MCQ Option Shuffling : Yes

Correct Marks : 1 Wrong Marks : 0.25

हम नौजवान क्या करेंगे?

Options :

1. * ताज पहनाएंगे

2. * झंडा फहरायेंगे

3. ✓ सांप्रदायिकता को हटायेंगे

4. * पशुयुक्त देश बनायेंगे

Question Number : 199 Question Id : 54592745651 Question Type : MCQ Option Shuffling : Yes

Correct Marks : 1 Wrong Marks : 0.25

उपर्युक्त गद्यांश का शीर्षक क्या है?

Options :

1. * सोने की चिड़िया

2. * भारत और सांप्रदायिकता

3. * नेताओं का अमृत

4. ✓ मेरा सपनों का भारत

Question Number : 200 Question Id : 54592745652 Question Type : MCQ Option Shuffling : Yes

Correct Marks : 1 Wrong Marks : 0.25

हमें किस से मुक्त होना चाहिए?

Options :

1. ✓ भाई - भतीजावाद

2. ✗ सत्य

3. ✗ अहिंसा

4. ✗ ताज