

## Education Consultant India Ltd.

Notations :

1.Options shown in green color and with ✓ icon are correct.

2.Options shown in red color and with ✖ icon are incorrect.

<b>Question Paper Name:</b>	Grade IV DASS 24th September 2019 Shift 1
<b>Subject Name:</b>	Grade IV DASS
<b>Creation Date:</b>	2019-09-24 12:11:17
<b>Duration:</b>	120
<b>Total Marks:</b>	200
<b>Display Marks:</b>	Yes
<b>Share Answer Key With Delivery Engine:</b>	No
<b>Actual Answer Key:</b>	Yes
<b>Calculator:</b>	None
<b>Magnifying Glass Required?:</b>	No
<b>Ruler Required?:</b>	No
<b>Eraser Required?:</b>	No
<b>Scratch Pad Required?:</b>	No
<b>Rough Sketch/Notepad Required?:</b>	No
<b>Protractor Required?:</b>	No
<b>Show Watermark on Console?:</b>	Yes
<b>Highlighter:</b>	No
<b>Auto Save on Console?:</b>	No

## Mental Ability1

<b>Group Number :</b>	1
<b>Group Id :</b>	5459272231
<b>Group Maximum Duration :</b>	0
<b>Group Minimum Duration :</b>	0
<b>Show Attended Group? :</b>	No
<b>Edit Attended Group? :</b>	No
<b>Break time:</b>	0
<b>Group Marks:</b>	20
<b>Is this Group for Examiner?:</b>	No
<b>Revisit allowed for group Instructions? :</b>	Yes
<b>Maximum Instruction Time:</b>	0
<b>Minimum Instruction Time:</b>	0

## Mental Ability1

<b>Section Id :</b>	5459272231
<b>Section Number :</b>	1

Section type :	Online
Mandatory or Optional:	Mandatory
Number of Questions:	20
Number of Questions to be attempted:	20
Section Marks:	20

Sub-Section Number:	1
Sub-Section Id:	5459272677
Question Shuffling Allowed :	Yes

Question Number : 1 Question Id : 54592745047 Question Type : MCQ Option Shuffling : Yes  
Correct Marks : 1 Wrong Marks : 0.25

A series is given with one term missing. Select the correct alternative from the given ones that will complete the series.

AR, FW, KB, PG , ?

Options :

1. ✓ UL
2. ✗ VM
3. ✗ VN
4. ✗ UM

Question Number : 1 Question Id : 54592745047 Question Type : MCQ Option Shuffling : Yes  
Correct Marks : 1 Wrong Marks : 0.25

एक अनुक्रम दिया गया है, जिसमें से एक पद लुप्त है। दिए गए विकल्पों में से वह सही विकल्प चुनिए, जो अनुक्रम को पूरा करे।

AR, FW, KB, PG , ?

Options :

1. ✓ UL
2. ✗ VM
3. ✗ VN
4. ✗ UM

Question Number : 2 Question Id : 54592745048 Question Type : MCQ Option Shuffling : Yes

Correct Marks : 1 Wrong Marks : 0.25

A series is given with one term missing. Select the correct alternative from the given ones that will complete the series.

RAP, UEU, XIZ, AME , ?

Options :

1. ✓ DQJ

2. ✗ ERK

3. ✗ DPJ

4. ✗ ERJ

Question Number : 2 Question Id : 54592745048 Question Type : MCQ Option Shuffling : Yes

Correct Marks : 1 Wrong Marks : 0.25

एक अनुक्रम दिया गया है, जिसमें से एक पद लुप्त है। दिए गए विकल्पों में से वह सही विकल्प चुनिए, जो अनुक्रम को पूरा करे।

RAP, UEU, XIZ, AME , ?

Options :

1. ✓ DQJ

2. ✗ ERK

3. ✗ DPJ

4. ✗ ERJ

Question Number : 3 Question Id : 54592745049 Question Type : MCQ Option Shuffling : Yes

Correct Marks : 1 Wrong Marks : 0.25

A series is given with one term missing. Select the correct alternative from the given ones that will complete the series.

HOMB, KLPY, NISV, ? , TCYP

Options :

1. ✖ RGWT
2. ✔ QFVS
3. ✖ QEVS
4. ✖ RHWT

Question Number : 3 Question Id : 54592745049 Question Type : MCQ Option Shuffling : Yes  
Correct Marks : 1 Wrong Marks : 0.25

एक अनुक्रम दिया गया है, जिसमें से एक पद लुप्त है। दिए गए विकल्पों में से वह सही विकल्प चुनिए, जो अनुक्रम को पूरा करे।

HOMB, KLPY, NISV, ? , TCYP

Options :

1. ✖ RGWT
2. ✔ QFVS
3. ✖ QEVS
4. ✖ RHWT

Question Number : 4 Question Id : 54592745050 Question Type : MCQ Option Shuffling : Yes  
Correct Marks : 1 Wrong Marks : 0.25

In the following question, select the odd word from the given alternatives.

Options :

1. ✖ Book
2. ✖ Newspaper
3. ✔ Tyre
4. ✖ Novel

Question Number : 4 Question Id : 54592745050 Question Type : MCQ Option Shuffling : Yes  
Correct Marks : 1 Wrong Marks : 0.25

निम्नलिखित प्रश्न में दिए गए विकल्पों में से विषम शब्द को चुनिए।

Options :

1. \* पुस्तक
2. \* समाचार
3. ✓ पहिया
4. \* उपन्यास

Question Number : 5 Question Id : 54592745051 Question Type : MCQ Option Shuffling : Yes  
Correct Marks : 1 Wrong Marks : 0.25

In the following question, select the odd word from the given alternatives.

Options :

1. \* Ohm
2. ✓ Pressure
3. \* Pascal
4. \* Radian

Question Number : 5 Question Id : 54592745051 Question Type : MCQ Option Shuffling : Yes  
Correct Marks : 1 Wrong Marks : 0.25

निम्नलिखित प्रश्न में दिए गए विकल्पों में से विषम शब्द को चुनिए।

Options :

1. \* ओम
2. ✓ दाब
3. \* पास्कल
4. \* रेडियन

Question Number : 6 Question Id : 54592745052 Question Type : MCQ Option Shuffling : Yes  
Correct Marks : 1 Wrong Marks : 0.25

In the following question, select the odd word from the given alternatives.

Options :

1. \* Hand
2. \* Eyes
3. \* Brain
4. ✓ Organ

Question Number : 6 Question Id : 54592745052 Question Type : MCQ Option Shuffling : Yes  
Correct Marks : 1 Wrong Marks : 0.25

निम्नलिखित प्रश्न में दिए गए विकल्पों में से विषम शब्द को चुनिए।

Options :

1. \* हाथ
2. \* नेत्र
3. \* मस्तिष्क
4. ✓ अंग

Question Number : 7 Question Id : 54592745053 Question Type : MCQ Option Shuffling : Yes  
Correct Marks : 1 Wrong Marks : 0.25

In the following question, select the related words from the given alternatives.

School : Teacher :: Hospital : ?

Options :

1. \* Treatment
2. ✓ Doctor
3. \* Medicine
4. \* Bed

Question Number : 7 Question Id : 54592745053 Question Type : MCQ Option Shuffling : Yes  
Correct Marks : 1 Wrong Marks : 0.25

निम्नलिखित प्रश्न में दिए गए विकल्पों में से संबंधित शब्दों को चुनिए।

विद्यालय : अध्यापक :: अस्पताल : ?

Options :

1. \* उपचार
2. ✓ डॉक्टर
3. \* दवाई
4. \* बिस्तर

Question Number : 8 Question Id : 54592745054 Question Type : MCQ Option Shuffling : Yes

Correct Marks : 1 Wrong Marks : 0.25

In the following question, select the related words from the given alternatives.

Cricket : Pitch :: Table tennis : ?

Options :

1. \* Match
2. \* Bat
3. \* Ball
4. ✓ Table

Question Number : 8 Question Id : 54592745054 Question Type : MCQ Option Shuffling : Yes

Correct Marks : 1 Wrong Marks : 0.25

निम्नलिखित प्रश्न में दिए गए विकल्पों में से संबंधित शब्दों को चुनिए।

क्रिकेट : पिच :: टेबल टेनिस : ?

Options :

1. \* मैच
2. \* बैट

3. ✖ बॉल

4. ✔ टेबल

Question Number : 9 Question Id : 54592745055 Question Type : MCQ Option Shuffling : Yes

Correct Marks : 1 Wrong Marks : 0.25

In the following question, select the related words from the given alternatives.

Length : Metre :: Temperature : ?

Options :

1. ✖ Celsius

2. ✔ Kelvin

3. ✖ Fahrenheit

4. ✖ Hot

Question Number : 9 Question Id : 54592745055 Question Type : MCQ Option Shuffling : Yes

Correct Marks : 1 Wrong Marks : 0.25

निम्नलिखित प्रश्न में दिए गए विकल्पों में से संबंधित शब्दों को चुनिए।

लम्बाई : मीटर :: तापमान : ?

Options :

1. ✖ सेल्सियस

2. ✔ केल्विन

3. ✖ फारेनहाइट

4. ✖ गर्म

Question Number : 10 Question Id : 54592745056 Question Type : MCQ Option Shuffling : Yes

Correct Marks : 1 Wrong Marks : 0.25



In a certain code language, 'FAST' is written as '611920', 'JACK' is written as '101311'. What is the code for 'POUND' in that code language?

Options :

1. ✓ 161521144
2. ✗ 16152144
3. ✗ 16152114
4. ✗ 16152141

Question Number : 10 Question Id : 54592745056 Question Type : MCQ Option Shuffling : Yes

Correct Marks : 1 Wrong Marks : 0.25

एक विशिष्ट कोड भाषा में, 'FAST' को '611920' लिखा जाता है, 'JACK' को '101311' लिखा जाता है। इस कोड भाषा में 'POUND' का कोड क्या है?

Options :

1. ✓ 161521144
2. ✗ 16152144
3. ✗ 16152114
4. ✗ 16152141

Question Number : 11 Question Id : 54592745057 Question Type : MCQ Option Shuffling : Yes

Correct Marks : 1 Wrong Marks : 0.25

In a certain code language, 'BRACKE' is written as 'EVDGNI'. What is the code for 'ORIENT' in that code language?

Options :

1. ✗ SVKIQX
2. ✓ RVLIQX
3. ✗ SVLIPY
4. ✗ RVKIPY

Question Number : 11 Question Id : 54592745057 Question Type : MCQ Option Shuffling : Yes  
Correct Marks : 1 Wrong Marks : 0.25

एक विशिष्ट कोड भाषा में, 'BRACKE' को 'EVDGNI' लिखा जाता है।  
इस कोड भाषा में 'ORIENT' का कोड क्या है?

Options :

1. ✘ SVKIQX
2. ✔ RVLIQX
3. ✘ SVLIPY
4. ✘ RVKIPY

Question Number : 12 Question Id : 54592745058 Question Type : MCQ Option Shuffling : Yes  
Correct Marks : 1 Wrong Marks : 0.25

In a certain code language, 'HONEST' is written as 'CIIYNN'.  
What is the code for 'TRUMBL' in that code language?

Options :

1. ✘ PKPHWF
2. ✘ OLQHWG
3. ✔ OLPGWF
4. ✘ PLQGWF

Question Number : 12 Question Id : 54592745058 Question Type : MCQ Option Shuffling : Yes  
Correct Marks : 1 Wrong Marks : 0.25

एक विशिष्ट कोड भाषा में, 'HONEST' को 'CIIYNN' लिखा जाता है।  
इस कोड भाषा में 'TRUMBL' का कोड क्या है?

Options :

1. ✘ PKPHWF
2. ✘ OLQHWG
3. ✔ OLPGWF
4. ✘ PLQGWF

Question Number : 13 Question Id : 54592745059 Question Type : MCQ Option Shuffling : Yes  
Correct Marks : 1 Wrong Marks : 0.25

Z1, Z2, Z3, Z4 and Z5 are sitting in a line facing towards the west. Z1 and Z2 sit at adjacent places. Z3 is sitting at south end and Z4 is sitting at north end. Z5 is neighbour of Z2 and Z3. Who is third from north end?

Options :

1. ✓ Z2
2. ✗ Z1
3. ✗ Z5
4. ✗ Z3

Question Number : 13 Question Id : 54592745059 Question Type : MCQ Option Shuffling : Yes  
Correct Marks : 1 Wrong Marks : 0.25

Z1, Z2, Z3, Z4 तथा Z5 एक पंक्ति में पश्चिम की ओर मुख करके बैठे हैं। Z1 तथा Z2 एक साथ बैठे हैं। Z3 दक्षिण छोर पर बैठा है तथा Z4 उत्तरी छोर पर बैठा है। Z5, Z2 तथा Z3 का पड़ोसी है। उत्तरी छोर से तीसरा कौन है?

Options :

1. ✓ Z2
2. ✗ Z1
3. ✗ Z5
4. ✗ Z3

Question Number : 14 Question Id : 54592745060 Question Type : MCQ Option Shuffling : Yes  
Correct Marks : 1 Wrong Marks : 0.25

Five boys B1, B2, B3, B4 and B5 are sitting in a line facing towards the North. B3 is sitting to the immediate right of B4 and B5 is sitting to the immediate left of B2. B3 is sitting to the immediate left of B1 and B4 is sitting to the immediate right of B2. If B5 is sitting at one corner, then who is sitting at the centre?

Options :

1. ✖ B3
2. ✖ B2
3. ✔ B4
4. ✖ B1

Question Number : 14 Question Id : 54592745060 Question Type : MCQ Option Shuffling : Yes  
Correct Marks : 1 Wrong Marks : 0.25

पाँच लडके B1, B2, B3, B4 तथा B5 एक पंक्ति में उत्तर की ओर मुख करके बैठे हैं। B3, B4 के ठीक दायीं ओर बैठा है तथा B5, B2 के ठीक बायीं ओर बैठा है। B3, B1 के ठीक बायीं ओर बैठा है तथा B4, B2 के ठीक दायीं ओर बैठा है। यदि B5 एक छोर पर बैठा है, तो मध्य में कौन बैठा है?

Options :

1. ✖ B3
2. ✖ B2
3. ✔ B4
4. ✖ B1

Question Number : 15 Question Id : 54592745061 Question Type : MCQ Option Shuffling : Yes  
Correct Marks : 1 Wrong Marks : 0.25

Six persons Q1, Q2, Q3, Q4, Q5 and Q6 are sitting in two lines. Three persons are sitting in each line. Q4 is sitting at second place to the left of Q6. Q3 is the neighbour of Q5 and is diagonally opposite to Q4. Q2 is the neighbour of Q6. Who is sitting opposite to Q5?

Options :

1. ✖ Q6
2. ✖ Q4
3. ✖ Q1
4. ✔ Q2

Question Number : 15 Question Id : 54592745061 Question Type : MCQ Option Shuffling : Yes

Correct Marks : 1 Wrong Marks : 0.25

छः व्यक्ति Q1, Q2, Q3, Q4, Q5 तथा Q6 दो पंक्तियों में बैठे हैं। प्रत्येक पंक्ति में तीन व्यक्ति बैठे हैं। Q4, Q6 के बायीं ओर दूसरे स्थान पर बैठा है। Q3, Q5 का पड़ोसी है तथा Q4 के विकर्णवत् विपरीत है। Q2, Q6 का पड़ोसी है। Q5 के विपरीत कौन बैठा है?

Options :

1. ✖ Q6
2. ✖ Q4
3. ✖ Q1
4. ✔ Q2

Question Number : 16 Question Id : 54592745062 Question Type : MCQ Option Shuffling : Yes

Correct Marks : 1 Wrong Marks : 0.25

Six friends E1, E2, E3, E4, E5 and E6 are sitting around a circular table facing towards the centre. E4 is sitting to the immediate left of E5. E3 is sitting between E1 and E6. E2 is sitting between E4 and E1. Who is sitting at second place to the left of E6?

Options :

1. ✓ E4

2. ✗ E2

3. ✗ E3

4. ✗ E5

Question Number : 16 Question Id : 54592745062 Question Type : MCQ Option Shuffling : Yes

Correct Marks : 1 Wrong Marks : 0.25

छः दोस्त E1, E2, E3, E4, E5 तथा E6 एक गोलाकार मेज के चारों ओर केन्द्र की ओर मुख करके बैठे हैं। E4, E5 के तुरंत बायीं ओर बैठा है। E3, E1 तथा E6 के बीच में बैठा है। E2, E4 तथा E1 के बीच में बैठा है। E6 के बायीं ओर दूसरे स्थान पर कौन बैठा है?

Options :

1. ✓ E4

2. ✗ E2

3. ✗ E3

4. ✗ E5

Question Number : 17 Question Id : 54592745063 Question Type : MCQ Option Shuffling : Yes

Correct Marks : 1 Wrong Marks : 0.25

Eight persons A1, A2, A3, A4, A5 and A6, A7 and A8 are sitting around a circular table. A1 is sitting immediate right of A7. A4 is sitting between A5 and A3. A2 is sitting to the immediate left of A7. A8 is sitting between A2 and A5. Who is sitting to the immediate right of A6?

Options :

1. \* A5

2. \* A1

3. ✓ A3

4. \* A2

Question Number : 17 Question Id : 54592745063 Question Type : MCQ Option Shuffling : Yes

Correct Marks : 1 Wrong Marks : 0.25

आठ व्यक्ति A1, A2, A3, A4, A5, A6, A7 तथा A8 एक गोलाकार मेज के चारों ओर केन्द्र की ओर मुख करके बैठे हैं। A1, A7 के तुरंत दायीं ओर बैठा है। A4, A5 तथा A3 के बीच में बैठा है। A2, A7 के तुरंत बायीं ओर बैठा है। A8, A2 तथा A5 के बीच में बैठा है। A6 के तुरंत दायीं ओर कौन बैठा है?

Options :

1. \* A5

2. \* A1

3. ✓ A3

4. \* A2

Question Number : 18 Question Id : 54592745064 Question Type : MCQ Option Shuffling : Yes

Correct Marks : 1 Wrong Marks : 0.25

In the following question below are given some statements followed by some conclusions based on those statements. Taking the given statements to be true even if they seem to be at variance from commonly known facts. Read all the conclusions and then decide which of the given conclusion logically follows the given statements.

Statements:

- I. All cup are wood.
- II. All wood are white.

Conclusions:

- I. Some white are cup.
- II. All white are cup.
- III. Some wood are not white.

Options :

- 1. ✖ Both conclusion I and II follows
- 2. ✖ Both conclusion II and III follows
- 3. ✔ Only conclusion I follows
- 4. ✖ Only conclusion III follows

Question Number : 18 Question Id : 54592745064 Question Type : MCQ Option Shuffling : Yes  
Correct Marks : 1 Wrong Marks : 0.25



नीचे दिए गए प्रश्न में कुछ कथन और उनके बाद उन कथनों पर आधारित कुछ निष्कर्ष दिए गए हैं। दिए गए कथनों को सही माने, चाहे उनमें सामान्य ज्ञात तथ्यों से भिन्नता हो। सभी निष्कर्ष पढ़ें और फिर निर्धारित करें कि दिए गए कौन से निष्कर्ष, दिए गए कथनों के आधार पर युक्तिसंगत हैं।

कथन:

- I. सभी कप, लकड़ी हैं।
- II. सभी लकड़ी, सफेद हैं।

निष्कर्ष:

- I. कुछ सफेद, कप हैं।
- II. सभी सफेद, कप हैं।
- III. कुछ लकड़ी, सफेद नहीं हैं।

Options :

1. \* दोनों निष्कर्ष I तथा II अनुसरण करते हैं
2. \* दोनों निष्कर्ष II तथा III अनुसरण करते हैं
3. ✓ केवल निष्कर्ष I अनुसरण करता है
4. \* केवल निष्कर्ष III अनुसरण करता है

Question Number : 19 Question Id : 54592745065 Question Type : MCQ Option Shuffling : Yes  
Correct Marks : 1 Wrong Marks : 0.25

In the following question below are given some statements followed by some conclusions based on those statements. Taking the given statements to be true even if they seem to be at variance from commonly known facts. Read all the conclusions and then decide which of the given conclusion logically follows the given statements.

Statements:

- I. All N are P.
- II. No P is Q.

Conclusions:

- I. No N is Q.
- II. No Q is N.
- III. Some P are N.

Options :

- 1. ✖ Both conclusion I and II follows
- 2. ✖ Both conclusion II and III follows
- 3. ✖ Both conclusion I and III follows
- 4. ✔ All conclusions follows

Question Number : 19 Question Id : 54592745065 Question Type : MCQ Option Shuffling : Yes  
Correct Marks : 1 Wrong Marks : 0.25

नीचे दिए गए प्रश्न में कुछ कथन और उनके बाद उन कथनों पर आधारित कुछ निष्कर्ष दिए गए हैं। दिए गए कथनों को सही माने, चाहे उनमें सामान्य ज्ञात तथ्यों से भिन्नता हो। सभी निष्कर्ष पढ़ें और फिर निर्धारित करें कि दिए गए कौन से निष्कर्ष, दिए गए कथनों के आधार पर युक्तिसंगत हैं।

कथन:

- I. सभी N, P हैं।
- II. कोई P, Q नहीं हैं।

निष्कर्ष:

- I. कोई N, Q नहीं हैं।
- II. कोई Q, N नहीं हैं।
- III. कुछ P, N हैं।

Options :

1. \* दोनों निष्कर्ष I तथा II अनुसरण करते हैं
2. \* दोनों निष्कर्ष II तथा III अनुसरण करते हैं
3. \* दोनों निष्कर्ष I तथा III अनुसरण करते हैं
4. ✓ सभी निष्कर्ष अनुसरण करते हैं

Question Number : 20 Question Id : 54592745066 Question Type : MCQ Option Shuffling : Yes

Correct Marks : 1 Wrong Marks : 0.25

In the following question, select the missing number from the given series.

96, 192, 384, 768, 1536, ?

Options :

1. ✖ 100

2. ✔ 3072

3. ✖ 630

4. ✖ 2084

Question Number : 20 Question Id : 54592745066 Question Type : MCQ Option Shuffling : Yes  
Correct Marks : 1 Wrong Marks : 0.25

निम्नलिखित प्रश्न में दी गई श्रृंखला में से लुप्त अंक ज्ञात कीजिए।

96, 192, 384, 768, 1536, ?

Options :

1. ✖ 100

2. ✔ 3072

3. ✖ 630

4. ✖ 2084

## Mental Ability2

Group Number :	2
Group Id :	5459272232
Group Maximum Duration :	0
Group Minimum Duration :	0
Show Attended Group? :	No
Edit Attended Group? :	No
Break time:	0
Group Marks:	20
Is this Group for Examiner?:	No
Revisit allowed for group Instructions? :	Yes
Maximum Instruction Time:	0
Minimum Instruction Time:	0

## Mental Ability2

Section Id :	5459272232
Section Number :	1
Section type :	Online

<b>Mandatory or Optional:</b>	Mandatory
<b>Number of Questions:</b>	20
<b>Number of Questions to be attempted:</b>	20
<b>Section Marks:</b>	20

<b>Sub-Section Number:</b>	1
<b>Sub-Section Id:</b>	5459272678
<b>Question Shuffling Allowed :</b>	Yes

Question Number : 21 Question Id : 54592745067 Question Type : MCQ Option Shuffling : Yes  
Correct Marks : 1 Wrong Marks : 0.25

In the following question, select the missing number from the given series.

11, 5.5, 183, 0.458, 0.091, ?

Note: For this question, discrepancy is found in question/answer. So, this question is ignored for all candidates.

Options :

1. 0.0152
2. 0.082
3. 185
4. 0.358

Question Number : 21 Question Id : 54592745067 Question Type : MCQ Option Shuffling : Yes  
Correct Marks : 1 Wrong Marks : 0.25

निम्नलिखित प्रश्न में दी गई श्रृंखला में से लुप्त अंक ज्ञात कीजिए।

11, 5.5, 183, 0.458, 0.091, ?

Note: For this question, discrepancy is found in question/answer. So, this question is ignored for all candidates.

Options :

1. 0.0152
2. 0.082
3. 185

4. 0.358

Question Number : 22 Question Id : 54592745068 Question Type : MCQ Option Shuffling : Yes  
Correct Marks : 1 Wrong Marks : 0.25

In the following question, select the missing number from the given series.

101, 100, 96, 87, 71, ?

Options :

1. ✖ 80

2. ✖ 92

3. ✔ 46

4. ✖ 79

Question Number : 22 Question Id : 54592745068 Question Type : MCQ Option Shuffling : Yes  
Correct Marks : 1 Wrong Marks : 0.25

निम्नलिखित प्रश्न में दी गई श्रृंखला में से लुप्त अंक ज्ञात कीजिए।

101, 100, 96, 87, 71, ?

Options :

1. ✖ 80

2. ✖ 92

3. ✔ 46

4. ✖ 79

Question Number : 23 Question Id : 54592745069 Question Type : MCQ Option Shuffling : Yes  
Correct Marks : 1 Wrong Marks : 0.25

In the following question, select the missing number from the given series.

1100, 1099, 1090, 1065, 1016, ?

Note: For this question, discrepancy is found in question/answer. So, this question is ignored for all candidates.

Options :

1. 1018
2. 1059
3. 1000
4. 933

Question Number : 23 Question Id : 54592745069 Question Type : MCQ Option Shuffling : Yes

Correct Marks : 1 Wrong Marks : 0.25

निम्नलिखित प्रश्न में दी गई श्रृंखला में से लुप्त अंक ज्ञात कीजिए।

1100, 1099, 1090, 1065, 1016, ?

Note: For this question, discrepancy is found in question/answer. So, this question is ignored for all candidates.

Options :

1. 1018
2. 1059
3. 1000
4. 933

Question Number : 24 Question Id : 54592745070 Question Type : MCQ Option Shuffling : Yes

Correct Marks : 1 Wrong Marks : 0.25

In the following question, select the number which can be placed at the sign of question mark (?) from the given alternatives.

3	8	7	18
6	5	4	15
2	1	9	?

Options :

1. \* 10

2. ✓ 12

3. ✗ 14

4. ✗ 16

Question Number : 24 Question Id : 54592745070 Question Type : MCQ Option Shuffling : Yes

Correct Marks : 1 Wrong Marks : 0.25

निम्नलिखित प्रश्न में दिए गए विकल्पों में से प्रश्न चिन्ह (?) के स्थान पर आने वाली संख्या को चुनिए।

3	8	7	18
6	5	4	15
2	1	9	?

Options :

1. ✗ 10

2. ✓ 12

3. ✗ 14

4. ✗ 16

Question Number : 25 Question Id : 54592745071 Question Type : MCQ Option Shuffling : Yes

Correct Marks : 1 Wrong Marks : 0.25

In the following question, select the number which can be placed at the sign of question mark (?) from the given alternatives.

3	5	7
2	4	3
4	3	4
81	144	?

Options :

1. ✓ 196

2. ✗ 225



3. \* 216

4. \* 144

Question Number : 25 Question Id : 54592745071 Question Type : MCQ Option Shuffling : Yes

Correct Marks : 1 Wrong Marks : 0.25

निम्नलिखित प्रश्न में दिए गए विकल्पों में से प्रश्न चिन्ह (?) के स्थान पर आने वाली संख्या को चुनिए।

3	5	7
2	4	3
4	3	4
81	144	?

Options :

1. ✓ 196

2. \* 225

3. \* 216

4. \* 144

Question Number : 26 Question Id : 54592745072 Question Type : MCQ Option Shuffling : Yes

Correct Marks : 1 Wrong Marks : 0.25

In the following question, select the number which can be placed at the sign of question mark (?) from the given alternatives.

3	8	2	19
8	6	7	50
8	9	4	?

Options :

1. \* 40

2. \* 41

3. \* 42

4. ✓ 44

Question Number : 26 Question Id : 54592745072 Question Type : MCQ Option Shuffling : Yes  
Correct Marks : 1 Wrong Marks : 0.25

निम्नलिखित प्रश्न में दिए गए विकल्पों में से प्रश्न चिन्ह (?) के स्थान पर आने वाली संख्या को चुनिए।

3	8	2	19
8	6	7	50
8	9	4	?

Options :

1. ✗ 40

2. ✗ 41

3. ✗ 42

4. ✓ 44

Question Number : 27 Question Id : 54592745073 Question Type : MCQ Option Shuffling : Yes  
Correct Marks : 1 Wrong Marks : 0.25

In the following question, select the number which can be placed at the sign of question mark (?) from the given alternatives.

4	8	4	32
5	3	5	31
6	2	2	?

Options :

1. ✗ 11

2. ✗ 14

3. ✓ 16

4. ✗ 18

Question Number : 27 Question Id : 54592745073 Question Type : MCQ Option Shuffling : Yes  
Correct Marks : 1 Wrong Marks : 0.25

निम्नलिखित प्रश्न में दिए गए विकल्पों में से प्रश्न चिन्ह (?) के स्थान पर आने वाली संख्या को चुनिए।

4	8	4	32
5	3	5	31
6	2	2	?

Options :

1. ✖ 11
2. ✖ 14
3. ✔ 16
4. ✖ 18

Question Number : 28 Question Id : 54592745074 Question Type : MCQ Option Shuffling : Yes  
Correct Marks : 1 Wrong Marks : 0.25

If 'A' means '×', 'B' means '÷', 'C' means '+' and 'D' means '-', then which of the following equation is correct?

Options :

1. ✖  $22B11A2C5 = 10$
2. ✖  $12B6A3C4 = 12$
3. ✔  $12A5C14B7 > 11$
4. ✖  $18B9A7C2 < 11$

Question Number : 28 Question Id : 54592745074 Question Type : MCQ Option Shuffling : Yes  
Correct Marks : 1 Wrong Marks : 0.25

यदि 'A' का अर्थ '×', 'B' का अर्थ '÷', 'C' का अर्थ '+' तथा 'D' का अर्थ '-' हो, तो निम्नलिखित में से कौन सा समीकरण सही है?

Options :

1. ✖  $22B11A2C5 = 10$

2. ✖  $12B6A3C4 = 12$

3. ✔  $12A5C14B7 > 11$

4. ✖  $18B9A7C2 < 11$

Question Number : 29 Question Id : 54592745075 Question Type : MCQ Option Shuffling : Yes  
Correct Marks : 1 Wrong Marks : 0.25

If  $12 @ 9 = 999$  and  $11 @ 4 = 1267$ , then  $9 @ 5 = ?$

Options :

1. ✖ 818

2. ✖ 768

3. ✖ 1020

4. ✔ 604

Question Number : 29 Question Id : 54592745075 Question Type : MCQ Option Shuffling : Yes  
Correct Marks : 1 Wrong Marks : 0.25

यदि  $12 @ 9 = 999$  तथा  $11 @ 4 = 1267$  हो, तो  $9 @ 5 = ?$

Options :

1. ✖ 818

2. ✖ 768

3. ✖ 1020

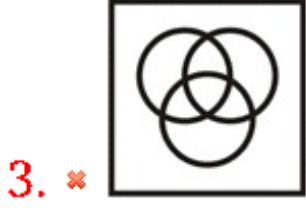
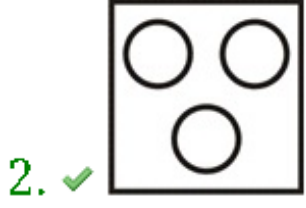
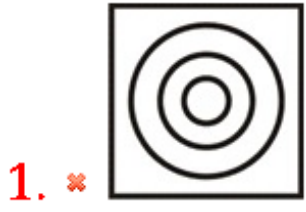
4. ✔ 604

Question Number : 30 Question Id : 54592745076 Question Type : MCQ Option Shuffling : Yes  
Correct Marks : 1 Wrong Marks : 0.25

Identify the diagram that best represents the relationship among the given classes.

Hen, Duck, Lion

Options :



Question Number : 30 Question Id : 54592745076 Question Type : MCQ Option Shuffling : Yes

Correct Marks : 1 Wrong Marks : 0.25

वह आरेख चुनिए जो नीचे दिए गए वर्गों के बीच के संबंध का सही निरूपण करता है।

मुर्गी, बतख, शेर

Options :



2. ✓



3. ✗



4. ✗



Question Number : 31 Question Id : 54592745077 Question Type : MCQ Option Shuffling : Yes


Correct Marks : 1 Wrong Marks : 0.25

Identify the diagram that best represents the relationship among the given classes.

Bags, Plastic, Soil



Options :

1. ✓



2. ✗




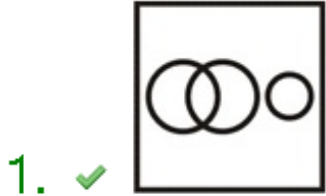



Question Number : 31 Question Id : 54592745077 Question Type : MCQ Option Shuffling : Yes  
Correct Marks : 1 Wrong Marks : 0.25

वह आरेख चुनिए जो नीचे दिए गए वर्गों के बीच के संबंध का सही निरूपण करता है।

बैग, प्लास्टिक, मृदा

Options :





4. ✖

Question Number : 32 Question Id : 54592745078 Question Type : MCQ Option Shuffling : Yes  
Correct Marks : 1 Wrong Marks : 0.25

A is north of B. B is west of C. C is west of D. E is south of D. In which direction is A from E?

Options :

1. ✓ North West
2. ✖ North East
3. ✖ South West
4. ✖ South East

Question Number : 32 Question Id : 54592745078 Question Type : MCQ Option Shuffling : Yes  
Correct Marks : 1 Wrong Marks : 0.25

A, B के उत्तर में है। B, C के पश्चिम में है। C, D के पश्चिम में है।  
E, D के दक्षिण में है। A, E से किस दिशा में है?

Options :

1. ✓ उत्तर पश्चिम
2. ✖ उत्तर पूर्व
3. ✖ दक्षिण पश्चिम
4. ✖ दक्षिण पूर्व

Question Number : 33 Question Id : 54592745079 Question Type : MCQ Option Shuffling : Yes  
Correct Marks : 1 Wrong Marks : 0.25

Ratan goes 6 km toward North. He then turns right and walks 6 km. He then turns right and walks 10 km. He then turns right and walks 4 km. In which direction is he from his initial position?



Options :

1. ✓ South East
2. ✖ East
3. ✖ South
4. ✖ South West

Question Number : 33 Question Id : 54592745079 Question Type : MCQ Option Shuffling : Yes  
Correct Marks : 1 Wrong Marks : 0.25

रतन 6 कि.मी. उत्तर की ओर जाता है। वह फिर दाएं मुड़ता है तथा 6 कि.मी, चलता है। वह फिर दाएं मुड़ता है तथा 10 कि.मी, चलता है। वह फिर दाएं मुड़ता है तथा 4 कि.मी, चलता है। वह अपने प्रारंभिक स्थान से किस दिशा में है?

Options :

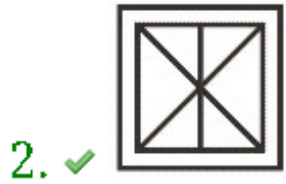
1. ✓ दक्षिण पूर्व
2. ✖ पूर्व
3. ✖ दक्षिण
4. ✖ दक्षिण पश्चिम

Question Number : 34 Question Id : 54592745080 Question Type : MCQ Option Shuffling : Yes  
Correct Marks : 1 Wrong Marks : 0.25

In the following question, select the figure which can be placed at the sign of question mark (?) from the given alternatives.



Options :



Question Number : 34 Question Id : 54592745080 Question Type : MCQ Option Shuffling : Yes  
Correct Marks : 1 Wrong Marks : 0.25

निम्नलिखित प्रश्न में दिए गए विकल्पों में से प्रश्न चिन्ह (?) के स्थान पर आने वाली आकृति को चुनिए।



Options :



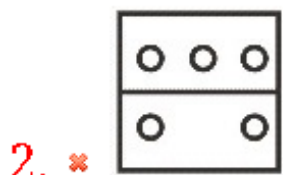
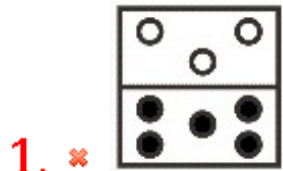


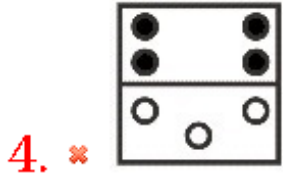
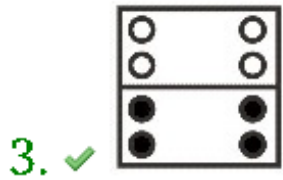
Question Number : 35 Question Id : 54592745081 Question Type : MCQ Option Shuffling : Yes  
 Correct Marks : 1 Wrong Marks : 0.25

In the following question, select the figure which can be placed at the sign of question mark (?) from the given alternatives.




Options :



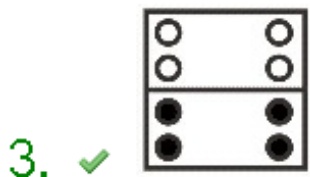
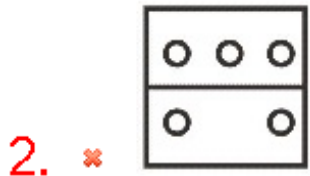
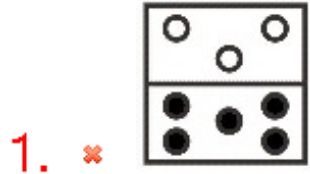


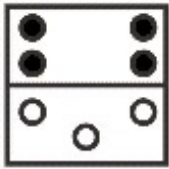
Question Number : 35 Question Id : 54592745081 Question Type : MCQ Option Shuffling : Yes  
 Correct Marks : 1 Wrong Marks : 0.25

निम्नलिखित प्रश्न में दिए गए विकल्पों में से प्रश्न चिन्ह (?) के स्थान पर आने वाली आकृति को चुनिए।



Options :






4. ✘

Question Number : 36 Question Id : 54592745082 Question Type : MCQ Option Shuffling : Yes  
 Correct Marks : 1 Wrong Marks : 0.25

Which answer figure will complete the pattern in the question figure?



Options :





Question Number : 36 Question Id : 54592745082 Question Type : MCQ Option Shuffling : Yes  
 Correct Marks : 1 Wrong Marks : 0.25

कौन सी उत्तर आकृति प्रश्न आकृति के प्रतिरूप को पूरा करेगी?

		?

Options :

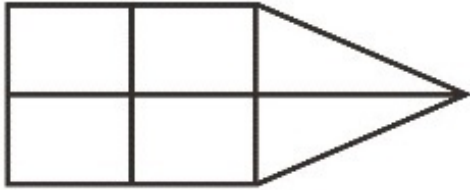




4. ✖

Question Number : 37 Question Id : 54592745083 Question Type : MCQ Option Shuffling : Yes  
Correct Marks : 1 Wrong Marks : 0.25

How many Triangles are there in the given figure?



Options :

1. ✖ 2

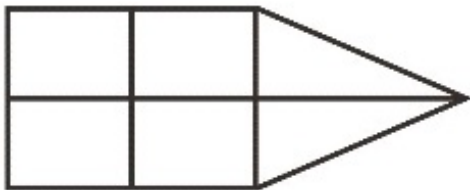
2. ✔ 3

3. ✖ 4

4. ✖ 6

Question Number : 37 Question Id : 54592745083 Question Type : MCQ Option Shuffling : Yes  
Correct Marks : 1 Wrong Marks : 0.25

दी गई आकृति में कितने त्रिभुज हैं?



Options :

1. ✖ 2


2. ✔ 3

3. ✖ 4

4. ✖ 6

Question Number : 38 Question Id : 54592745084 Question Type : MCQ Option Shuffling : Yes  
Correct Marks : 1 Wrong Marks : 0.25

How many Quadrilateral are there in the given figure?



Note: For this question, discrepancy is found in question/answer. So, this question is ignored for all candidates.

Options :

1. 5
2. 6
3. 7
4. 10

Question Number : 38 Question Id : 54592745084 Question Type : MCQ Option Shuffling : Yes  
Correct Marks : 1 Wrong Marks : 0.25

दी गई आकृति में कितने चतुर्भुज हैं?



Note: For this question, discrepancy is found in question/answer. So, this question is ignored for all candidates.

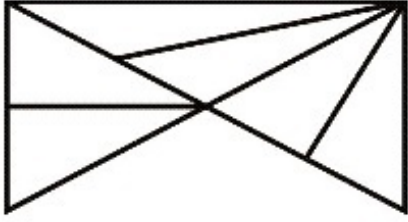
Options :

1. 5
2. 6
3. 7
4. 10

Question Number : 39 Question Id : 54592745085 Question Type : MCQ Option Shuffling : Yes  
Correct Marks : 1 Wrong Marks : 0.25



How many Triangles are there in the given figure?

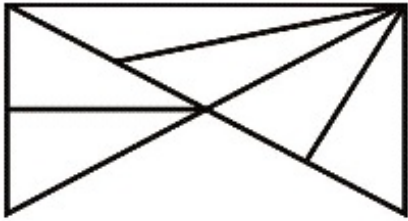


Options :

- 1. ✖ 13
- 2. ✔ 14
- 3. ✖ 11
- 4. ✖ 16

Question Number : 39 Question Id : 54592745085 Question Type : MCQ Option Shuffling : Yes  
Correct Marks : 1 Wrong Marks : 0.25

दी गई आकृति में कितने त्रिभुज हैं?

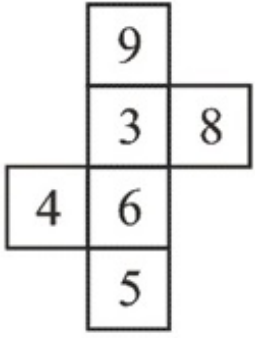


Options :

- 1. ✖ 13
- 2. ✔ 14
- 3. ✖ 11
- 4. ✖ 16

Question Number : 40 Question Id : 54592745086 Question Type : MCQ Option Shuffling : Yes  
Correct Marks : 1 Wrong Marks : 0.25

Which of the following cube can be formed?



I



II



III



IV

Options :

1. ✖ I, II and IV

2. ✖ I, II and III

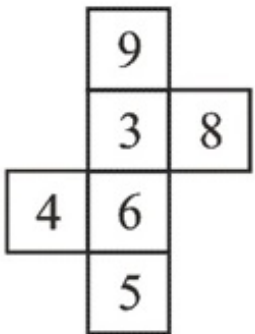
3. ✖ II and IV

4. ✔ I and III

Question Number : 40 Question Id : 54592745086 Question Type : MCQ Option Shuffling : Yes

Correct Marks : 1 Wrong Marks : 0.25

निम्नलिखित में से कौन सा घन बन सकता है?



I



II



III



IV

Options :

1. ✖ I, II तथा IV

2. ✖ I, II तथा III

3. ✖ II तथा IV

4. ✔ I तथा III

## General Awareness1

Group Number :	3
Group Id :	5459272233
Group Maximum Duration :	0
Group Minimum Duration :	0
Show Attended Group? :	No
Edit Attended Group? :	No
Break time:	0
Group Marks:	20
Is this Group for Examiner? :	No
Revisit allowed for group Instructions? :	Yes
Maximum Instruction Time:	0
Minimum Instruction Time:	0

## General Awareness1

Section Id :	5459272233
Section Number :	1
Section type :	Online
Mandatory or Optional:	Mandatory
Number of Questions:	20
Number of Questions to be attempted:	20
Section Marks:	20

Sub-Section Number:	1
Sub-Section Id:	5459272679
Question Shuffling Allowed :	Yes

Question Number : 41 Question Id : 54592745087 Question Type : MCQ Option Shuffling : Yes  
Correct Marks : 1 Wrong Marks : 0.25

‘Charminar’ is located in which city?

Options :

1. ✖ Kolkata

2. ✖ Bengaluru

3. ✖ Mumbai

4. ✔ Hyderabad

Question Number : 41 Question Id : 54592745087 Question Type : MCQ Option Shuffling : Yes

Correct Marks : 1 Wrong Marks : 0.25

‘चारमीनार’ किस शहर में स्थित है?

Options :

1. ✖ कोलकाता

2. ✖ बेंगलुरु

3. ✖ मुंबई

4. ✔ हैदराबाद

Question Number : 42 Question Id : 54592745088 Question Type : MCQ Option Shuffling : Yes

Correct Marks : 1 Wrong Marks : 0.25

Which of the following statements is NOT correct?

I. Ellora caves are situated in Maharashtra.

II. Thai Pongal is a harvest festival dedicated to the Sun God.

III. Mallika Sarabhai is famous for Mohiniattam dance form.

Options :

1. ✖ Only I

2. ✖ Only II

3. ✔ Only III

4. ✖ Both I and III

Question Number : 42 Question Id : 54592745088 Question Type : MCQ Option Shuffling : Yes

Correct Marks : 1 Wrong Marks : 0.25

निम्नलिखित में से कौन सा कथन सही नहीं है?

- I. एलोरा की गुफाएँ महाराष्ट्र में स्थित हैं।
- II. थाई पोंगल सूर्य देव को समर्पित एक फसल कटाई का त्योहार है।
- III. मल्लिका साराभाई को मोहिनीअट्टम नृत्य के लिए जाना जाता है।

Options :

1. ✖ केवल I
2. ✖ केवल II
3. ✔ केवल III
4. ✖ I तथा III दोनों

Question Number : 43 Question Id : 54592745089 Question Type : MCQ Option Shuffling : Yes

Correct Marks : 1 Wrong Marks : 0.25

\_\_\_\_\_ is the first woman dancer to be awarded with Padma Vibhushan.

Options :

1. ✔ Sonal Mansingh
2. ✖ Mallika Sarabhai
3. ✖ Yamini Krishnamurthy
4. ✖ Shovana Narayan

Question Number : 43 Question Id : 54592745089 Question Type : MCQ Option Shuffling : Yes

Correct Marks : 1 Wrong Marks : 0.25

\_\_\_\_\_ पद्म विभूषण से सम्मानित होने वाली पहली महिला नर्तकी हैं।

Options :

1. ✔ सोनल मानसिंह
2. ✖ मल्लिका साराभाई
3. ✖ यामिनी कृष्णमूर्ति
4. ✖ शोवना नारायण

Question Number : 44 Question Id : 54592745090 Question Type : MCQ Option Shuffling : Yes  
Correct Marks : 1 Wrong Marks : 0.25

Keoladeo National Park is located in which state?

Options :

1. ✖ Punjab
2. ✔ Rajasthan
3. ✖ Himachal Pradesh
4. ✖ Chhattisgarh

Question Number : 44 Question Id : 54592745090 Question Type : MCQ Option Shuffling : Yes  
Correct Marks : 1 Wrong Marks : 0.25

केवलादेव राष्ट्रीय उद्यान किस राज्य में स्थित है?

Options :

1. ✖ पंजाब
2. ✔ राजस्थान
3. ✖ हिमाचल प्रदेश
4. ✖ छत्तीसगढ़

Question Number : 45 Question Id : 54592745091 Question Type : MCQ Option Shuffling : Yes  
Correct Marks : 1 Wrong Marks : 0.25

What is the Corpus of Contingency Fund authorised by the Parliament?

Options :

1. ✖ Rs 100 crore
2. ✔ Rs 500 crore
3. ✖ Rs 1000 crore
4. ✖ Rs 5000 crore

Question Number : 45 Question Id : 54592745091 Question Type : MCQ Option Shuffling : Yes  
Correct Marks : 1 Wrong Marks : 0.25

संसद द्वारा अधिकृत आकस्मिक निधि का कॉर्पस क्या है?

Options :

1. ✖ 100 करोड़ रुपये
2. ✔ 500 करोड़ रुपये
3. ✖ 1000 करोड़ रुपये
4. ✖ 5000 करोड़ रुपये

Question Number : 46 Question Id : 54592745092 Question Type : MCQ Option Shuffling : Yes  
Correct Marks : 1 Wrong Marks : 0.25

Which of the following documents has clearly defined outputs and outcomes for Central Sector Schemes and Centrally Sponsored Schemes with measurable indicators against them?

Options :

1. ✖ Receipt Budget
2. ✖ Zero Budget
3. ✖ Gender Budget
4. ✔ Outcome Budget

Question Number : 46 Question Id : 54592745092 Question Type : MCQ Option Shuffling : Yes  
Correct Marks : 1 Wrong Marks : 0.25

निम्नलिखित में से किस दस्तावेज़ में केंद्रीय क्षेत्र की योजनाओं और केंद्र प्रायोजित योजनाओं के लिए परिमेय संकेतकों के साथ आउटपुट और परिणाम को स्पष्ट रूप से परिभाषित किया गया है?

Options :

1. ✖ प्राप्ति बजट
2. ✖ शून्य बजट
3. ✖ जेंडर बजट
4. ✔ आउटकम बजट

Question Number : 47 Question Id : 54592745093 Question Type : MCQ Option Shuffling : Yes  
Correct Marks : 1 Wrong Marks : 0.25

भारत में बजट सत्र के दौरान निम्नलिखित में से कौन सा दस्तावेज़ संसद में प्रस्तुत नहीं किया जाता है?

Options :

1. \* वार्षिक वित्तीय विवरण
2. \* वित्त विधेयक
3. ✓ जेंडर बजट
4. \* आउटकम बजट

Question Number : 47 Question Id : 54592745093 Question Type : MCQ Option Shuffling : Yes

Correct Marks : 1 Wrong Marks : 0.25

Which of the following documents is not presented to the Parliament during Budget Session in India?

Options :

1. \* Annual Financial Statement
2. \* Finance Bill
3. ✓ Gender Budget
4. \* Outcome Budget

Question Number : 48 Question Id : 54592745094 Question Type : MCQ Option Shuffling : Yes

Correct Marks : 1 Wrong Marks : 0.25

Where are molecules or lipids manufactured?

Options :

1. \* Rough Endoplasmic Reticulum
2. ✓ Smooth Endoplasmic Reticulum
3. \* Golgi Apparatus
4. \* Lysosomes

Question Number : 48 Question Id : 54592745094 Question Type : MCQ Option Shuffling : Yes

Correct Marks : 1 Wrong Marks : 0.25

वसा या लिपिड अणुओं का निर्माण कहा होता है?

Options :



1. ✖ खुरदरी अंतर्द्रव्यी जालिका
2. ✔ चिकनी अंतर्द्रव्यी जालिका
3. ✖ गॉल्जी उपकरण
4. ✖ लाइसोसोम

Question Number : 49 Question Id : 54592745095 Question Type : MCQ Option Shuffling : Yes  
Correct Marks : 1 Wrong Marks : 0.25

The minimum distance at which objects can be seen most distinctly without strain is called \_\_\_\_\_.

Options :

1. ✖ Far point of the eye
2. ✔ Least distance of distinct vision
3. ✖ Focus of the eye
4. ✖ Radius of curvature of human eye lens

Question Number : 49 Question Id : 54592745095 Question Type : MCQ Option Shuffling : Yes  
Correct Marks : 1 Wrong Marks : 0.25

वह न्यूनतम दूरी जिस पर रखी वस्तुओं को बिना तनाव के अत्यधिक सपष्ट देखा जा सकता है, \_\_\_\_\_ कहलाती है।

Options :

1. ✖ नेत्र का दूर बिंदु
2. ✔ सुस्पष्ट दर्शन की अल्पतम दूरी
3. ✖ नेत्र का फोकस
4. ✖ मानव नेत्र लेंस की वक्रता की त्रिज्या

Question Number : 50 Question Id : 54592745096 Question Type : MCQ Option Shuffling : Yes  
Correct Marks : 1 Wrong Marks : 0.25

A ray of light travelling from an optically denser medium to an optically rarer medium, \_\_\_\_\_.

Options :

1. ✖ Slows down and bends away from normal
2. ✔ Fastens and bends away from normal
3. ✖ Slows down and bends towards normal
4. ✖ Fastens and bends towards normal

Question Number : 50 Question Id : 54592745096 Question Type : MCQ Option Shuffling : Yes  
Correct Marks : 1 Wrong Marks : 0.25

प्रकाशतः सघन माध्यम से प्रकाशतः विरल माध्यम पर जाने वाली प्रकाश की किरण \_\_\_\_\_।

Options :

1. ✖ धीमी हो जाती है और सामान्य से दूर झुक जाती है
2. ✔ तेज हो जाती है और सामान्य से दूर झुक जाती है
3. ✖ धीमी हो जाती है और सामान्य की ओर झुक जाती है
4. ✖ तेज हो जाती है और सामान्य की ओर झुक जाती है

Question Number : 51 Question Id : 54592745097 Question Type : MCQ Option Shuffling : Yes  
Correct Marks : 1 Wrong Marks : 0.25

A chemical compound 'X' is present in a tube. Upon heating the test tube emits brown fumes. Identify 'X'.

Options :

1. ✖ Copper Sulphate
2. ✖ Calcium Carbonate
3. ✖ Ferrous Sulphate
4. ✔ Lead Nitrate

Question Number : 51 Question Id : 54592745097 Question Type : MCQ Option Shuffling : Yes  
Correct Marks : 1 Wrong Marks : 0.25

नली में रासायनिक यौगिक 'X' मौजूद है। गर्म करने पर परखनली से भूरे रंग का धुआं उत्सर्जित होता है। 'X' की पहचान करें।

Options :

1. ✖ कॉपर सल्फेट
2. ✖ कैल्शियम कार्बोनेट
3. ✖ फेरस सल्फेट
4. ✔ लेड नाइट्रेट

Question Number : 52 Question Id : 54592745098 Question Type : MCQ Option Shuffling : Yes  
Correct Marks : 1 Wrong Marks : 0.25

How much work is done in moving a charge of 10C across a potential difference of 220V?

Options :

1. ✖ 22 J
2. ✔ 2200 J
3. ✖ 2.2 J
4. ✖ 2240 J

Question Number : 52 Question Id : 54592745098 Question Type : MCQ Option Shuffling : Yes  
Correct Marks : 1 Wrong Marks : 0.25

220V के विभवांतर पर 10C के आवेश को स्थानांतरित करने में कितना कार्य किया जाता है?

Options :

1. ✖ 22 J
2. ✔ 2200 J
3. ✖ 2.2 J
4. ✖ 2240 J

Question Number : 53 Question Id : 54592745099 Question Type : MCQ Option Shuffling : Yes  
Correct Marks : 1 Wrong Marks : 0.25

When silver chloride is placed in sunlight, the colour of silver chloride changes to \_\_\_\_\_.

Options :

1. \* Black
2. \* Green
3. ✓ Grey
4. \* Brown

Question Number : 53 Question Id : 54592745099 Question Type : MCQ Option Shuffling : Yes  
Correct Marks : 1 Wrong Marks : 0.25

जब सिल्वर क्लोराइड सूर्य के प्रकाश में रखा जाता है, सिल्वर क्लोराइड का रंग \_\_\_\_\_ में बदल जाता है।

Options :

1. \* काला
2. \* हरा
3. ✓ धूसर
4. \* भूरा

Question Number : 54 Question Id : 54592745100 Question Type : MCQ Option Shuffling : Yes  
Correct Marks : 1 Wrong Marks : 0.25

The nature of the image formed by a concave mirror is virtual and erect. Where is the object positioned?

Options :

1. \* At infinity
2. \* At focus
3. \* At centre of curvature
4. ✓ Between pole and focus

Question Number : 54 Question Id : 54592745100 Question Type : MCQ Option Shuffling : Yes  
Correct Marks : 1 Wrong Marks : 0.25

अवतल दर्पण द्वारा निर्मित छवि का स्वरूप आभासी और सीधा है। वस्तु कहाँ स्थित है?

Options :

1. \* अनंत पर
2. \* फोकस पर
3. \* वक्रता केंद्र पर
4. ✓ ध्रुव और फोकस के बीच में

Question Number : 55 Question Id : 54592745101 Question Type : MCQ Option Shuffling : Yes  
Correct Marks : 1 Wrong Marks : 0.25

Barium chloride solution and sodium sulphate solution, on mixing together, results in the formation of white precipitate. This white precipitate is \_\_\_\_\_.

Options :

1. \* Sodium chloride
2. \* Sodium Chlorosulphate
3. ✓ Barium sulphate
4. \* Barium Chlorosulphate

Question Number : 55 Question Id : 54592745101 Question Type : MCQ Option Shuffling : Yes  
Correct Marks : 1 Wrong Marks : 0.25

बेरियम क्लोराइड विलयन और सोडियम सल्फेट विलयन को एक साथ मिलाने पर सफेद अवक्षेप का निर्माण होता है। यह सफेद अवक्षेप \_\_\_\_\_ है।

Options :

1. \* सोडियम क्लोराइड
2. \* सोडियम क्लोरोसल्फेट
3. ✓ बेरियम सल्फेट
4. \* बेरियम क्लोरोसल्फेट

Question Number : 56 Question Id : 54592745102 Question Type : MCQ Option Shuffling : Yes  
Correct Marks : 1 Wrong Marks : 0.25

Which properties of soil are determined by its parent rock?

- I. Colour
- II. Texture
- III. Mineral Content

Options :

- 1. ✖ Only I
- 2. ✖ Only II
- 3. ✖ I and II
- 4. ✔ I, II and III

Question Number : 56 Question Id : 54592745102 Question Type : MCQ Option Shuffling : Yes

Correct Marks : 1 Wrong Marks : 0.25

मृदा के कौन से गुण उसकी मूल चट्टान निर्धारित करती है?

- I. रंग
- II. बनावट
- III. खनिज सामग्री

Options :

- 1. ✖ केवल I
- 2. ✖ केवल II
- 3. ✖ I और II
- 4. ✔ I, II, और III

Question Number : 57 Question Id : 54592745103 Question Type : MCQ Option Shuffling : Yes

Correct Marks : 1 Wrong Marks : 0.25

Which is the northern most range of Himalayas?

Options :

- 1. ✖ Shiwaliks
- 2. ✔ Himadri
- 3. ✖ Himachal Himalayas

## 4. \* Arunachal Himalays

Question Number : 57 Question Id : 54592745103 Question Type : MCQ Option Shuffling : Yes  
Correct Marks : 1 Wrong Marks : 0.25

हिमालय की सबसे उत्तरी श्रृंखला कौन सी है?

Options :

1. \* शिवालिक
2. ✓ हिमाद्री
3. \* हिमाचल हिमालय
4. \* अरुणाचल हिमालय

Question Number : 58 Question Id : 54592745104 Question Type : MCQ Option Shuffling : Yes  
Correct Marks : 1 Wrong Marks : 0.25

Which of the following Indian river is a west flowing river?

Options :

1. ✓ Tapi
2. \* Mahanadi
3. \* Krishna
4. \* Subarnarekha

Question Number : 58 Question Id : 54592745104 Question Type : MCQ Option Shuffling : Yes  
Correct Marks : 1 Wrong Marks : 0.25

निम्नलिखित में से कौन सी भारतीय नदी पश्चिम की ओर बहने वाली नदी है?

Options :

1. ✓ तापी
2. \* महानदी
3. \* कृष्णा
4. \* सुवर्णरेखा

Question Number : 59 Question Id : 54592745105 Question Type : MCQ Option Shuffling : Yes

Correct Marks : 1 Wrong Marks : 0.25

Gandhi Sagar Dam is built on which river?

Options :

1. ✓ Chambal River
2. ✗ Godavari River
3. ✗ Krishna River
4. ✗ Brahmaputra River

Question Number : 59 Question Id : 54592745105 Question Type : MCQ Option Shuffling : Yes

Correct Marks : 1 Wrong Marks : 0.25

गांधी सागर बाँध किस नदी पर बना हुआ है?

Options :

1. ✓ चंबल नदी
2. ✗ गोदावरी नदी
3. ✗ कृष्णा नदी
4. ✗ ब्रह्मपुत्र नदी

Question Number : 60 Question Id : 54592745106 Question Type : MCQ Option Shuffling : Yes

Correct Marks : 1 Wrong Marks : 0.25

Which of the following dam is built on Chambal river?

Options :

1. ✗ Sardar Sarovar Dam
2. ✗ Nagarjuna Sagar Dam
3. ✓ Rana Pratap Sagar Dam
4. ✗ Bhakra Nangal Dam

Question Number : 60 Question Id : 54592745106 Question Type : MCQ Option Shuffling : Yes

Correct Marks : 1 Wrong Marks : 0.25

निम्नलिखित में से कौन सा बाँध चंबल नदी पर बना हुआ है?

Options :

1. ✗ सरदार सरोवर बाँध



2. ✖ नागार्जुन सागर बाँध

3. ✔ राणा प्रताप सागर बाँध

4. ✖ भाखड़ा नांगल बाँध

## General Awareness2

Group Number :	4
Group Id :	5459272234
Group Maximum Duration :	0
Group Minimum Duration :	0
Show Attended Group? :	No
Edit Attended Group? :	No
Break time:	0
Group Marks:	20
Is this Group for Examiner? :	No
Revisit allowed for group Instructions? :	Yes
Maximum Instruction Time:	0
Minimum Instruction Time:	0

## General Awareness2

Section Id :	5459272234
Section Number :	1
Section type :	Online
Mandatory or Optional:	Mandatory
Number of Questions:	20
Number of Questions to be attempted:	20
Section Marks:	20

Sub-Section Number:	1
Sub-Section Id:	5459272680
Question Shuffling Allowed :	Yes

Question Number : 61 Question Id : 54592745107 Question Type : MCQ Option Shuffling : Yes  
Correct Marks : 1 Wrong Marks : 0.25

Andaman and Nicobar Islands are separated from each other by which channel?

Options :

1. ✖ Eight Degree Channel

2. ✔ Ten Degree Channel

3. \* Ninety Degree Channel

4. \* Eighty Degree Channel

Question Number : 61 Question Id : 54592745107 Question Type : MCQ Option Shuffling : Yes

Correct Marks : 1 Wrong Marks : 0.25

कौन सा चैनल अंडमान और निकोबार द्वीप समूह को एक दूसरे से अलग करता है?

Options :

1. \* आठ डिग्री चैनल

2. ✓ दस डिग्री चैनल

3. \* नब्बे डिग्री चैनल

4. \* अस्सी डिग्री चैनल

Question Number : 62 Question Id : 54592745108 Question Type : MCQ Option Shuffling : Yes

Correct Marks : 1 Wrong Marks : 0.25

The earliest South Indian literature is called \_\_\_\_\_ literature.

Options :

1. \* Vedic

2. \* Pali

3. ✓ Sangam

4. \* Vaishnava

Question Number : 62 Question Id : 54592745108 Question Type : MCQ Option Shuffling : Yes

Correct Marks : 1 Wrong Marks : 0.25

प्राचीन दक्षिण भारतीय साहित्य को \_\_\_\_\_ साहित्य कहा जाता है।

Options :

1. \* वैदिक

2. \* पाली

3. ✓ संगम

4. \* वैष्णव

Question Number : 63 Question Id : 54592745109 Question Type : MCQ Option Shuffling : Yes

Correct Marks : 1 Wrong Marks : 0.25

Which Mughal emperor granted the rights to setup a factory in Surat to Sir Thomas Roe?

Options :

1. ✓ Jahangir
2. ✗ Mir Jafar
3. ✗ Bahadur Shah Zafar
4. ✗ Akbar

Question Number : 63 Question Id : 54592745109 Question Type : MCQ Option Shuffling : Yes

Correct Marks : 1 Wrong Marks : 0.25

किस मुग़ल सम्राट ने सर थॉमस रो को सूरत में कारखाना लगाने का अधिकार दिया था?

Options :

1. ✓ जहाँगीर
2. ✗ मीर ज़फ़र
3. ✗ बहादुर शाह ज़फ़र
4. ✗ अकबर

Question Number : 64 Question Id : 54592745110 Question Type : MCQ Option Shuffling : Yes

Correct Marks : 1 Wrong Marks : 0.25

Who wrote the ancient book 'Arthashastra'?

Options :

1. ✗ Chandragupta Maurya
2. ✓ Chanakya
3. ✗ Ashoka
4. ✗ Panini

Question Number : 64 Question Id : 54592745110 Question Type : MCQ Option Shuffling : Yes

Correct Marks : 1 Wrong Marks : 0.25

प्राचीन पुस्तक 'अर्थशास्त्र' किसने लिखी है?

Options :

1. ✖ चंद्रगुप्त मौर्य
2. ✔ चाणक्य
3. ✖ अशोक
4. ✖ पाणिनि

Question Number : 65 Question Id : 54592745111 Question Type : MCQ Option Shuffling : Yes  
Correct Marks : 1 Wrong Marks : 0.25

'Jatakas' a form of Buddhist literature, contain \_\_\_\_\_.

Options :

1. ✔ stories of previous births of Buddha
2. ✖ stories of warfare
3. ✖ forms of yoga
4. ✖ forms of meditation taught by Buddha

Question Number : 65 Question Id : 54592745111 Question Type : MCQ Option Shuffling : Yes  
Correct Marks : 1 Wrong Marks : 0.25

'जातक' बौद्ध साहित्य का एक रूप है, जिसमें \_\_\_\_\_ हैं।

Options :

1. ✔ बुद्ध के पूर्व जन्म की कहानियाँ
2. ✖ युद्ध की कहानियाँ
3. ✖ योग के रूप
4. ✖ बुद्ध द्वारा सिखाए गए ध्यान के रूप

Question Number : 66 Question Id : 54592745112 Question Type : MCQ Option Shuffling : Yes  
Correct Marks : 1 Wrong Marks : 0.25

Which Arab general was the first to invade India in 715 AD?

Options :

1. ✖ Iltutmish

2. \* Muhammad Ghori
3. \* Mahmud Ghazni
4. ✓ Muhammad bin Qasim

Question Number : 66 Question Id : 54592745112 Question Type : MCQ Option Shuffling : Yes  
Correct Marks : 1 Wrong Marks : 0.25

715 ई. में भारत पर आक्रमण करने वाला सर्वप्रथम अरब जनरल कौन था?

Options :

1. \* इल्तुतमिश
2. \* मुहम्मद गोरी
3. \* महमूद गज़नी
4. ✓ मुहम्मद बिन कासिम

Question Number : 67 Question Id : 54592745113 Question Type : MCQ Option Shuffling : Yes  
Correct Marks : 1 Wrong Marks : 0.25

Civil Disobedience Movement was called off because of which of the following?

Options :

1. \* First Round Table Conference
2. \* Session of Indian National Congress (1929)
3. ✓ Gandhi-Irwin Pact
4. \* Poona Pact

Question Number : 67 Question Id : 54592745113 Question Type : MCQ Option Shuffling : Yes  
Correct Marks : 1 Wrong Marks : 0.25

सविनय अवज्ञा आंदोलन को निम्नलिखित में से किस कारण से बंद किया गया था?

Options :

1. \* पहला गोलमेज सम्मेलन

2. \* भारतीय राष्ट्रीय कांग्रेस का 1929 अधिवेशन

3. ✓ गांधी-इरविन पैक्ट

4. \* पूना पैक्ट

Question Number : 68 Question Id : 54592745114 Question Type : MCQ Option Shuffling : Yes  
Correct Marks : 1 Wrong Marks : 0.25

CSIR carried out first ever genetic study on the natives of which of the following state/union territories?

Options :

1. ✓ Lakshadweep

2. \* Andaman & Nicobar

3. \* Odisha

4. \* Meghalaya

Question Number : 68 Question Id : 54592745114 Question Type : MCQ Option Shuffling : Yes  
Correct Marks : 1 Wrong Marks : 0.25

सी.एस.आई.आर ने निम्नलिखित में से किस राज्य / केंद्र शासित प्रदेश के मूल निवासियों पर पहली बार आनुवंशिक अध्ययन किया?

Options :

1. ✓ लक्षद्वीप

2. \* अण्डमान और निकोबार

3. \* ओडिशा

4. \* मेघालय

Question Number : 69 Question Id : 54592745115 Question Type : MCQ Option Shuffling : Yes  
Correct Marks : 1 Wrong Marks : 0.25

Who won Miss India World 2019?

Options :

1. \* Anukreethy Vas

2. ✓ Suman Rao

3. \* Shivani Jadhav

4. \* Shreya Shanker

Question Number : 69 Question Id : 54592745115 Question Type : MCQ Option Shuffling : Yes

Correct Marks : 1 Wrong Marks : 0.25

2019 का मिस इंडिया वर्ल्ड किसने जीता?

Options :

1. \* अनुकृति वास

2. ✓ सुमन राव

3. \* शिवानी जाधव

4. \* श्रेया शंकर

Question Number : 70 Question Id : 54592745116 Question Type : MCQ Option Shuffling : Yes

Correct Marks : 1 Wrong Marks : 0.25

Which of the following NGO won BBC's 'Global Food Champion' award 2019?

Options :

1. \* Make a Difference

2. \* Pratham

3. ✓ Akshay Patra

4. \* Ummeed

Question Number : 70 Question Id : 54592745116 Question Type : MCQ Option Shuffling : Yes

Correct Marks : 1 Wrong Marks : 0.25

2019 में निम्नलिखित में से कौन से एन.जी.ओ ने बीबीसी का 'ग्लोबल फूड चैंपियन' पुरस्कार जीता?

Options :

1. \* मेक आ डिफरेंस

2. \* प्रथम

3. ✓ अक्षय पात्रा

#### 4. \* उम्मीद

Question Number : 71 Question Id : 54592745117 Question Type : MCQ Option Shuffling : Yes  
Correct Marks : 1 Wrong Marks : 0.25

Which of the following organisation has launched 'AWaRe' tool to combat Antimicrobial Resistance?

Options :

1. ✓ WHO
2. \* UNICEF
3. \* UNESCO
4. \* FAO

Question Number : 71 Question Id : 54592745117 Question Type : MCQ Option Shuffling : Yes  
Correct Marks : 1 Wrong Marks : 0.25

निम्नलिखित में से किस संगठन ने एंटीमाइक्रोबियल प्रतिरोध से निपटने के लिए 'अवेयर'(AWaRE) टूल लॉन्च किया है?

Options :

1. ✓ डब्ल्यू.एच.ओ (W.H.O)
2. \* यु.नि.सेफ (UNICEF)
3. \* यु.ने.स्को (UNESCO)
4. \* एफ.ए.ओ (FAO)

Question Number : 72 Question Id : 54592745118 Question Type : MCQ Option Shuffling : Yes  
Correct Marks : 1 Wrong Marks : 0.25

Which space agency has announced 'Artemis' program to place astronauts on lunar surface?

Options :

1. \* ISRO
2. ✓ NASA
3. \* ROS COSMOS
4. \* JAXA



Question Number : 72 Question Id : 54592745118 Question Type : MCQ Option Shuffling : Yes

Correct Marks : 1 Wrong Marks : 0.25

किस अंतरिक्ष एजेंसी ने चंद्रमा की सतह पर अंतरिक्ष यात्री को पहुंचाने के लिए 'आर्टेमिस' कार्यक्रम की घोषणा की है?

Options :

1. ✖ इसरो
2. ✔ नासा
3. ✖ रोस कोसमोस
4. ✖ जाक्सा

Question Number : 73 Question Id : 54592745119 Question Type : MCQ Option Shuffling : Yes

Correct Marks : 1 Wrong Marks : 0.25

First female Chief Economist of International Monetary Fund (IMF) is \_\_\_\_\_.

Options :

1. ✔ Gita Gopinath
2. ✖ Rocio Titiunik
3. ✖ Marianne Ojo
4. ✖ Dambisa Moyo

Question Number : 73 Question Id : 54592745119 Question Type : MCQ Option Shuffling : Yes

Correct Marks : 1 Wrong Marks : 0.25

अंतरराष्ट्रीय मुद्रा कोष (आई एम् एफ) की पहली महिला मुख्य अर्थशास्त्री \_\_\_\_\_ है।

Options :

1. ✔ गीता गोपीनाथ
2. ✖ रोशियो टिटियुनिक
3. ✖ मरिअने ओजो
4. ✖ दंबिसा मोयो

Question Number : 74 Question Id : 54592745120 Question Type : MCQ Option Shuffling : Yes

Correct Marks : 1 Wrong Marks : 0.25

Which part of Indian Constitution deals with Emergency Provisions?

Options :

1. ✖ XV
2. ✔ XVIII
3. ✖ XVII
4. ✖ XIX

Question Number : 74 Question Id : 54592745120 Question Type : MCQ Option Shuffling : Yes

Correct Marks : 1 Wrong Marks : 0.25

भारतीय संविधान का कौन सा भाग आपात उपबंधो से संबंधित है?

Options :

1. ✖ XV
2. ✔ XVIII
3. ✖ XVII
4. ✖ XIX

Question Number : 75 Question Id : 54592745121 Question Type : MCQ Option Shuffling : Yes

Correct Marks : 1 Wrong Marks : 0.25

Which Constitutional Amendment Act added the chapter of Fundamental Duties to the Constitution?

Options :

1. ✔ 42nd
2. ✖ 44th
3. ✖ 24th
4. ✖ 74th

Question Number : 75 Question Id : 54592745121 Question Type : MCQ Option Shuffling : Yes

Correct Marks : 1 Wrong Marks : 0.25

किस संवैधानिक संशोधन अधिनियम ने मौलिक कर्तव्यों को संविधान में जोड़ा था?

Options :

1. ✓ 42 वां
2. ✗ 44 वां
3. ✗ 24 वां
4. ✗ 74 वां

Question Number : 76 Question Id : 54592745122 Question Type : MCQ Option Shuffling : Yes  
Correct Marks : 1 Wrong Marks : 0.25

Who was the President of the Constituent Assembly?

Options :

1. ✓ Rajendra Prasad
2. ✗ B.R. Ambedkar
3. ✗ Jawahar Lal Nehru
4. ✗ Motilal Nehru

Question Number : 76 Question Id : 54592745122 Question Type : MCQ Option Shuffling : Yes  
Correct Marks : 1 Wrong Marks : 0.25

संविधान सभा के अध्यक्ष कौन थे?

Options :

1. ✓ राजेन्द्र प्रसाद
2. ✗ बी.आर. अम्बेडकर
3. ✗ जवाहर लाल नेहरू
4. ✗ मोतीलाल नेहरू

Question Number : 77 Question Id : 54592745123 Question Type : MCQ Option Shuffling : Yes  
Correct Marks : 1 Wrong Marks : 0.25

Which of the following are mentioned in Part-IV Directive Principles of State Policy?

I. Uniform Civil Code

II. Provision for free and compulsory education for children

III. Organisation of agriculture and animal husbandry

Options :

1. ✓ I, II and III

2. \* Both I and III

3. \* Both I and II

4. \* Only II

Question Number : 77 Question Id : 54592745123 Question Type : MCQ Option Shuffling : Yes

Correct Marks : 1 Wrong Marks : 0.25

निम्नलिखित में से कौन सा भाग IV राज्य की नीति के निर्देशक तत्व में उल्लेखित है?

I. एक समान सिविल संहिता

II. बालकों के लिए निःशुल्क और अनिवार्य शिक्षा का उपबंध

III. कृषि और पशुपालन का संगठन

Options :

1. ✓ I, II तथा III

2. \* I तथा III दोनों

3. \* I तथा II दोनों

4. \* केवल II

Question Number : 78 Question Id : 54592745124 Question Type : MCQ Option Shuffling : Yes

Correct Marks : 1 Wrong Marks : 0.25

Which medal did India win in men's doubles of World Tour Platinum Australian Open of Table Tennis in 2019?

Options :

1. \* Gold

2. ✖ Silver

3. ✔ Bronze

4. ✖ No Medal

Question Number : 78 Question Id : 54592745124 Question Type : MCQ Option Shuffling : Yes

Correct Marks : 1 Wrong Marks : 0.25

2019 के विश्व टूर प्लेटिनम ऑस्ट्रेलियन ओपन के पुरुष युगल में भारत ने कौन सा पदक जीता?

Options :

1. ✖ स्वर्ण

2. ✖ रजत

3. ✔ कांस्य

4. ✖ कोई मेडल नहीं

Question Number : 79 Question Id : 54592745125 Question Type : MCQ Option Shuffling : Yes

Correct Marks : 1 Wrong Marks : 0.25

Who won ICC Cricket Man's World Cup 2019?

Options :

1. ✖ India

2. ✖ New Zealand

3. ✔ England

4. ✖ Sri Lanka

Question Number : 79 Question Id : 54592745125 Question Type : MCQ Option Shuffling : Yes

Correct Marks : 1 Wrong Marks : 0.25

2019 का आई.सी.सी क्रिकेट पुरुष विश्व कप किसने जीता?

Options :

1. ✖ भारत

2. ✖ न्यूजीलैंड

3. ✔ इंग्लैंड

## 4. \* श्रीलंका

Question Number : 80 Question Id : 54592745126 Question Type : MCQ Option Shuffling : Yes  
Correct Marks : 1 Wrong Marks : 0.25

Serena Williams got defeated by which of the following player in Wimbledon 2019?

Options :

1. \* Carolinne Wozniacki
2. \* Naomi Osaka
3. \* Victoria Azarenka
4. ✓ Simona Halep

Question Number : 80 Question Id : 54592745126 Question Type : MCQ Option Shuffling : Yes  
Correct Marks : 1 Wrong Marks : 0.25

2019 के विंबलडन में सेरेना विल्लियम्स को किस खिलाड़ी ने हराया?

Options :

1. \* कैरोलीन वोजिनयाक
2. \* नाओमी ओसाका
3. \* विक्टोरिया अज़ारेन्का
4. ✓ सिमोना हालेप

## Arithmetic Ability1

Group Number :	5
Group Id :	5459272235
Group Maximum Duration :	0
Group Minimum Duration :	0
Show Attended Group? :	No
Edit Attended Group? :	No
Break time:	0
Group Marks:	20
Is this Group for Examiner?:	No
Revisit allowed for group Instructions? :	Yes
Maximum Instruction Time:	0
Minimum Instruction Time:	0

# Arithmetic Ability1

Section Id :	5459272235
Section Number :	1
Section type :	Online
Mandatory or Optional:	Mandatory
Number of Questions:	20
Number of Questions to be attempted:	20
Section Marks:	20

Sub-Section Number:	1
Sub-Section Id:	5459272681
Question Shuffling Allowed :	Yes

Question Number : 81 Question Id : 54592745127 Question Type : MCQ Option Shuffling : Yes  
Correct Marks : 1 Wrong Marks : 0.25

What is the value of  $(125/216) + (1/8) - (64/27)$ ?

Options :

1. ✖  $2/5$
2. ✔  $-5/3$
3. ✖  $-3/5$
4. ✖  $5/2$

Question Number : 81 Question Id : 54592745127 Question Type : MCQ Option Shuffling : Yes  
Correct Marks : 1 Wrong Marks : 0.25

$(125/216) + (1/8) - (64/27)$  का मान क्या है?

Options :

1. ✖  $2/5$
2. ✔  $-5/3$
3. ✖  $-3/5$
4. ✖  $5/2$

Question Number : 82 Question Id : 54592745128 Question Type : MCQ Option Shuffling : Yes  
Correct Marks : 1 Wrong Marks : 0.25

What is the value of  $54 \div (1/4) - (96/5) \times (15/12) + 60$ ?

Options :

1. ✖ 192

2. ✓ 252

3. ✗ 274

4. ✗ 210

Question Number : 82 Question Id : 54592745128 Question Type : MCQ Option Shuffling : Yes  
Correct Marks : 1 Wrong Marks : 0.25

54 ÷ (1/4) - (96/5) × (15/12) + 60 का मान क्या है?

Options :

1. ✗ 192

2. ✓ 252

3. ✗ 274

4. ✗ 210

Question Number : 83 Question Id : 54592745129 Question Type : MCQ Option Shuffling : Yes  
Correct Marks : 1 Wrong Marks : 0.25

What is the value of  $\frac{5 \times 5 \times 5 + 7 \times 7 \times 7 + 9 \times 9 \times 9 - 945}{(5^2 + 49 + 9^2 - 143)}$  ?

Options :

1. ✗ 35

2. ✗ 2

3. ✓ 21

4. ✗ 14

Question Number : 83 Question Id : 54592745129 Question Type : MCQ Option Shuffling : Yes  
Correct Marks : 1 Wrong Marks : 0.25

$\frac{5 \times 5 \times 5 + 7 \times 7 \times 7 + 9 \times 9 \times 9 - 945}{(5^2 + 49 + 9^2 - 143)}$  का मान क्या है?

Options :

1. ✗ 35

2. ✗ 2

3. ✓ 21



4. ✖ 14

Question Number : 84 Question Id : 54592745130 Question Type : MCQ Option Shuffling : Yes  
Correct Marks : 1 Wrong Marks : 0.25

What is the value of  $\frac{(12^3 + 13^3 - 25^3)}{39}$  ?

Options :

1. ✖ -288

2. ✔ -300

3. ✖ -275

4. ✖ -286

Question Number : 84 Question Id : 54592745130 Question Type : MCQ Option Shuffling : Yes  
Correct Marks : 1 Wrong Marks : 0.25

$\frac{(12^3 + 13^3 - 25^3)}{39}$  का मान क्या है?

Options :

1. ✖ -288

2. ✔ -300

3. ✖ -275

4. ✖ -286

Question Number : 85 Question Id : 54592745131 Question Type : MCQ Option Shuffling : Yes  
Correct Marks : 1 Wrong Marks : 0.25

What is the value of  $\frac{11}{36} \times \frac{48}{55} + \left( \frac{49}{56} - \frac{3}{8} + 21 \right) - \frac{87}{29} \div \frac{3}{5}$  ?

Options :

1. ✖ 274/225

2. ✖ 543/30

3. ✖ 147/225

4. ✔ 503/30

Question Number : 85 Question Id : 54592745131 Question Type : MCQ Option Shuffling : Yes

Correct Marks : 1 Wrong Marks : 0.25

$\frac{11}{36} \times \frac{48}{55} + \left( \frac{49}{56} - \frac{3}{8} + 21 \right) - \frac{87}{29} \div \frac{3}{5}$  का मान क्या है?

Options :

1. ✖ 274/225

2. ✖ 543/30

3. ✖ 147/225

4. ✔ 503/30

Question Number : 86 Question Id : 54592745132 Question Type : MCQ Option Shuffling : Yes

Correct Marks : 1 Wrong Marks : 0.25

What is the value of  $[(232/3) \div (72/54) - 14 + (39/5) \times (175/65)]$ ?

Options :

1. ✖ 78

2. ✔ 65

3. ✖ 54

4. ✖ 60

Question Number : 86 Question Id : 54592745132 Question Type : MCQ Option Shuffling : Yes

Correct Marks : 1 Wrong Marks : 0.25

$[(232/3) \div (72/54) - 14 + (39/5) \times (175/65)]$  का मान क्या है?

Options :

1. ✖ 78

2. ✔ 65

3. ✖ 54

4. ✖ 60

Question Number : 87 Question Id : 54592745133 Question Type : MCQ Option Shuffling : Yes

Correct Marks : 1 Wrong Marks : 0.25

What is the value of  $(384/81) \times 45/2 + 96 \div (9/2) - (2/3)$ ?

Options :

1. ✖  $47/3$

2. ✖  $3/50$

3. ✔  $382/3$

4. ✖  $51$

Question Number : 87 Question Id : 54592745133 Question Type : MCQ Option Shuffling : Yes  
Correct Marks : 1 Wrong Marks : 0.25

$(384/81) \times 45/2 + 96 \div (9/2) - (2/3)$  का मान क्या है?

Options :

1. ✖  $47/3$

2. ✖  $3/50$

3. ✔  $382/3$

4. ✖  $51$

Question Number : 88 Question Id : 54592745134 Question Type : MCQ Option Shuffling : Yes  
Correct Marks : 1 Wrong Marks : 0.25

What is the value of  $\frac{154}{35} - \left( \frac{86}{5} + \frac{132}{3} - 14 \right) + \frac{968}{5}$  ?

Options :

1. ✖  $211$

2. ✖  $1054/5$

3. ✔  $754/5$

4. ✖  $1$

Question Number : 88 Question Id : 54592745134 Question Type : MCQ Option Shuffling : Yes  
Correct Marks : 1 Wrong Marks : 0.25

$\frac{154}{35} - \left( \frac{86}{5} + \frac{132}{3} - 14 \right) + \frac{968}{5}$  का मान क्या है?

Options :

1. ✖  $211$

2. ✖  $1054/5$

3. ✓ 754/5

4. ✗ 1

Question Number : 89 Question Id : 54592745135 Question Type : MCQ Option Shuffling : Yes

Correct Marks : 1 Wrong Marks : 0.25

What is the value of  $91 - \left( \frac{142}{273} \div \frac{213}{182} \right) \times \frac{153}{136} + \frac{86}{215}$  ?

Options :

1. ✗ 91

2. ✗ 272/5

3. ✓ 909/10

4. ✗ 8/819

Question Number : 89 Question Id : 54592745135 Question Type : MCQ Option Shuffling : Yes

Correct Marks : 1 Wrong Marks : 0.25

$91 - \left( \frac{142}{273} \div \frac{213}{182} \right) \times \frac{153}{136} + \frac{86}{215}$  का मान क्या है?

Options :

1. ✗ 91

2. ✗ 272/5

3. ✓ 909/10

4. ✗ 8/819

Question Number : 90 Question Id : 54592745136 Question Type : MCQ Option Shuffling : Yes

Correct Marks : 1 Wrong Marks : 0.25

What is the value of  $2500 + \left( \frac{700}{189} \times \frac{27}{20} \right) \div \frac{20}{25} - 1200 - 1250$  ?

Options :

1. ✗ 72

2. ✗ 625/9

3. ✗ 512/7

4. ✓ 225/4

Question Number : 90 Question Id : 54592745136 Question Type : MCQ Option Shuffling : Yes

Correct Marks : 1 Wrong Marks : 0.25

$$2500 + \left( \frac{700}{189} \times \frac{27}{20} \right) \div \frac{20}{25} - 1200 - 1250 \text{ का मान क्या है?}$$

Options :

1. ✖ 72
2. ✖ 625/9
3. ✖ 512/7
4. ✔ 225/4

Question Number : 91 Question Id : 54592745137 Question Type : MCQ Option Shuffling : Yes

Correct Marks : 1 Wrong Marks : 0.25

The average marks obtained by a group 9 students is 55 and the average marks obtained by another group of 11 students is 45. What is the average marks obtained by all 20 students?

Options :

1. ✖ 45.5
2. ✖ 46.25
3. ✔ 49.5
4. ✖ 46.5

Question Number : 91 Question Id : 54592745137 Question Type : MCQ Option Shuffling : Yes

Correct Marks : 1 Wrong Marks : 0.25

9 छात्रों के एक समूह द्वारा प्राप्त औसत अंक 55 है और 11 छात्रों के दूसरे समूह द्वारा प्राप्त औसत अंक 45 है। सभी 20 छात्रों द्वारा प्राप्त औसत अंक क्या है?

Options :

1. ✖ 45.5
2. ✖ 46.25
3. ✔ 49.5

4. ✖ 46.5

Question Number : 92 Question Id : 54592745138 Question Type : MCQ Option Shuffling : Yes  
Correct Marks : 1 Wrong Marks : 0.25

The difference between a discount of 53% and two successive discounts of 30% and 20% is Rs. 126. What is the marked price of the article?

Options :

1. ✖ Rs 2000

2. ✖ Rs 1500

3. ✔ Rs 1400

4. ✖ Rs 1600

Question Number : 92 Question Id : 54592745138 Question Type : MCQ Option Shuffling : Yes  
Correct Marks : 1 Wrong Marks : 0.25

53% की एक छूट तथा 30% और 20% की दो क्रमिक छूट का अंतर 126 रुपये है। वस्तु का अंकित मूल्य क्या है?

Options :

1. ✖ 2000 रुपये

2. ✖ 1500 रुपये

3. ✔ 1400 रुपये

4. ✖ 1600 रुपये

Question Number : 93 Question Id : 54592745139 Question Type : MCQ Option Shuffling : Yes  
Correct Marks : 1 Wrong Marks : 0.25

A dealer marks an article  $x\%$  above its cost price and gives a discount of  $(x/2)\%$  on the article. If he earns a profit of  $(2x/5)\%$ , then what is the value of  $x$ ?

Options :

1. ✖ 18

2. ✖ 10

3. ✓ 20

4. ✗ 30

Question Number : 93 Question Id : 54592745139 Question Type : MCQ Option Shuffling : Yes

Correct Marks : 1 Wrong Marks : 0.25

एक विक्रेता वस्तु को उसके क्रय मूल्य से  $x\%$  अधिक अंकित करता है तथा उस पर  $(x/2)\%$  की छूट देता है। यदि वह  $(2x/5)\%$  का लाभ अर्जित करता है, तो  $x$  का मान क्या है?

Options :

1. ✗ 18

2. ✗ 10

3. ✓ 20

4. ✗ 30

Question Number : 94 Question Id : 54592745140 Question Type : MCQ Option Shuffling : Yes

Correct Marks : 1 Wrong Marks : 0.25

If the difference between the two numbers is 30% of their sum, then what is the ratio of larger number and smaller number?

Options :

1. ✓ 13 : 7

2. ✗ 10 : 3

3. ✗ 13 : 10

4. ✗ 7 : 3

Question Number : 94 Question Id : 54592745140 Question Type : MCQ Option Shuffling : Yes

Correct Marks : 1 Wrong Marks : 0.25

यदि दो संख्याओं के बीच के अंतर उनके योग का 30% है, तो सबसे बड़ी संख्या तथा सबसे छोटी संख्या का अनुपात क्या है?

Options :

1. ✓ 13 : 7

2. ✗ 10 : 3

3. ✗ 13 : 10

4. ✗ 7 : 3

Question Number : 95 Question Id : 54592745141 Question Type : MCQ Option Shuffling : Yes

Correct Marks : 1 Wrong Marks : 0.25

A's income is 120% of B's income and A's expenditure is 80% of B's expenditure. If B saves 25% of his income, then how much percent does A save of his own income?

Options :

1. ✓ 50 percent

2. ✗ 60 percent

3. ✗ 25 percent

4. ✗ 40 percent

Question Number : 95 Question Id : 54592745141 Question Type : MCQ Option Shuffling : Yes

Correct Marks : 1 Wrong Marks : 0.25

A की आय B की आय की 120% है तथा A का व्यय B के व्यय का 80% है। यदि B अपनी आय का 25% बचाता है, तो A अपनी खुद की आय का कितना प्रतिशत बचाता है?

Options :

1. ✓ 50 प्रतिशत

2. ✗ 60 प्रतिशत

3. ✗ 25 प्रतिशत

4. ✗ 40 प्रतिशत

Question Number : 96 Question Id : 54592745142 Question Type : MCQ Option Shuffling : Yes

Correct Marks : 1 Wrong Marks : 0.25



In an election between two candidates, a candidate got 60% votes and he won by a majority of 3600 votes. Later it was found that 20% votes were invalid. What was the number of valid votes?

Options :

1. ✖ 15000
2. ✖ 18000
3. ✖ 15500
4. ✔ 14400

Question Number : 96 Question Id : 54592745142 Question Type : MCQ Option Shuffling : Yes

Correct Marks : 1 Wrong Marks : 0.25

दो उम्मीदवारों के बीच एक चुनाव में, एक उम्मीदवार को 60% मत मिले तथा वह 3600 मतों की बहुमत से जीत गया। बाद में यह पाया गया कि 20% मत अमान्य थे। मान्य मतों की संख्या क्या थी?

Options :

1. ✖ 15000
2. ✖ 18000
3. ✖ 15500
4. ✔ 14400

Question Number : 97 Question Id : 54592745143 Question Type : MCQ Option Shuffling : Yes

Correct Marks : 1 Wrong Marks : 0.25

An article is bought for Rs 800 and is sold at 20% loss. What is the selling price of the article?

Options :

1. ✔ Rs 640
2. ✖ Rs 960
3. ✖ Rs 600

#### 4. \* Rs 750

Question Number : 97 Question Id : 54592745143 Question Type : MCQ Option Shuffling : Yes  
Correct Marks : 1 Wrong Marks : 0.25

एक वस्तु को 800 रुपये में खरीदा जाता है तथा 20% की हानि पर बेचा जाता है। वस्तु का विक्रय मूल्य क्या है?

Options :

1. ✓ 640 रुपये
2. \* 960 रुपये
3. \* 600 रुपये
4. \* 750 रुपये

Question Number : 98 Question Id : 54592745144 Question Type : MCQ Option Shuffling : Yes  
Correct Marks : 1 Wrong Marks : 0.25

An article is sold at 10% loss. If its cost price is decreased by Rs 20 and selling price is increased by Rs 6, then a profit of 7.14% is earned on it. What is the original selling price of the article?

Options :

1. \* Rs 176
2. ✓ Rs 144
3. \* Rs 154
4. \* Rs 168

Question Number : 98 Question Id : 54592745144 Question Type : MCQ Option Shuffling : Yes  
Correct Marks : 1 Wrong Marks : 0.25

एक वस्तु को 10% की हानि पर बेचा जाता है। यदि उसका क्रय मूल्य 20 रुपये से कम किया जाता है तथा विक्रय मूल्य 6 रुपये से बढ़ाया जाता है, तो इस पर 7.14% का एक लाभ कमाया जाता है। वस्तु का वास्तविक विक्रय मूल्य क्या है?

Options :

1. ✖ 176 रुपये

2. ✔ 144 रुपये

3. ✖ 154 रुपये

4. ✖ 168 रुपये

Question Number : 99 Question Id : 54592745145 Question Type : MCQ Option Shuffling : Yes  
Correct Marks : 1 Wrong Marks : 0.25

Each of A and B sold their watch at Rs 4080. A gained 2% while B incurred a loss of 20%. What is the ratio of cost price of A to that of B?

Options :

1. ✖ 14 : 50

2. ✖ 39 : 49

3. ✔ 40 : 51

4. ✖ 38 : 51

Question Number : 99 Question Id : 54592745145 Question Type : MCQ Option Shuffling : Yes  
Correct Marks : 1 Wrong Marks : 0.25

A तथा B में से प्रत्येक ने अपनी घड़ी को 4080 रुपये में बेच दिया। A ने 2% का लाभ कमाया तथा B को 20% की हानि हुई। A के क्रय मूल्य का B से क्या अनुपात है?

Options :

1. ✖ 14 : 50

2. ✖ 39 : 49

3. ✔ 40 : 51

4. ✖ 38 : 51

Question Number : 100 Question Id : 54592745146 Question Type : MCQ Option Shuffling : Yes  
Correct Marks : 1 Wrong Marks : 0.25

If  $(3a + 2b) / (3a - 5b) = 5/3$ , then what is the value of a/b?

Options :

1. ✓ 31/6

2. ✗ 6/31

3. ✗ 6/7

4. ✗ 7/6

Question Number : 100 Question Id : 54592745146 Question Type : MCQ Option Shuffling : Yes

Correct Marks : 1 Wrong Marks : 0.25

यदि  $(3a + 2b) / (3a - 5b) = 5/3$  है, तो  $a/b$  का मान क्या है?

Options :

1. ✓ 31/6

2. ✗ 6/31

3. ✗ 6/7

4. ✗ 7/6

## Arithmetic Ability2

Group Number :	6
Group Id :	5459272236
Group Maximum Duration :	0
Group Minimum Duration :	0
Show Attended Group? :	No
Edit Attended Group? :	No
Break time:	0
Group Marks:	20
Is this Group for Examiner?:	No
Revisit allowed for group Instructions? :	Yes
Maximum Instruction Time:	0
Minimum Instruction Time:	0

## Arithmetic Ability2

Section Id :	5459272236
Section Number :	1
Section type :	Online
Mandatory or Optional:	Mandatory
Number of Questions:	20
Number of Questions to be attempted:	20

Sub-Section Number: 1  
Sub-Section Id: 5459272682  
Question Shuffling Allowed : Yes

Question Number : 101 Question Id : 54592745147 Question Type : MCQ Option Shuffling : Yes  
Correct Marks : 1 Wrong Marks : 0.25

Three numbers A, B and C are in the ratio of 1 : 3 : 2 respectively. If C is 30 less than the sum of A and B, then what is the value of B?

Options :

1. ✖ 50
2. ✖ 30
3. ✔ 45
4. ✖ 35

Question Number : 101 Question Id : 54592745147 Question Type : MCQ Option Shuffling : Yes  
Correct Marks : 1 Wrong Marks : 0.25

तीन संख्या A, B तथा C का अनुपात क्रमशः 1 : 3 : 2 है। यदि C, A तथा B के योग से 30 कम है, तो B का मान क्या है?

Options :

1. ✖ 50
2. ✖ 30
3. ✔ 45
4. ✖ 35

Question Number : 102 Question Id : 54592745148 Question Type : MCQ Option Shuffling : Yes  
Correct Marks : 1 Wrong Marks : 0.25

If the cost of 5 apples and 6 mangoes is same as the cost of 3 apples and 9 mangoes, then what is the ratio of the cost of a mango and the cost of an apple?

Options :

1. ✖ 3 : 2

2. ✖ 5 : 3

3. ✔ 2 : 3

4. ✖ 3 : 5

Question Number : 102 Question Id : 54592745148 Question Type : MCQ Option Shuffling : Yes

Correct Marks : 1 Wrong Marks : 0.25

यदि 5 सेब तथा 6 आम का मूल्य 3 सेब तथा 9 आम के मूल्य के बराबर है, तो आम के मूल्य तथा सेब के मूल्य का अनुपात क्या है?

Options :

1. ✖ 3 : 2

2. ✖ 5 : 3

3. ✔ 2 : 3

4. ✖ 3 : 5

Question Number : 103 Question Id : 54592745149 Question Type : MCQ Option Shuffling : Yes

Correct Marks : 1 Wrong Marks : 0.25

What will be the compound interest on a sum of Rs 6400 for three years at the rate of 10% per annum?

Options :

1. ✖ Rs 2218.4

2. ✔ Rs 2118.4

3. ✖ Rs 1998.4

4. ✖ Rs 2198.4

Question Number : 103 Question Id : 54592745149 Question Type : MCQ Option Shuffling : Yes

Correct Marks : 1 Wrong Marks : 0.25

एक 6400 रुपये की राशि पर 10% प्रति वर्ष की ब्याज दर से तीन वर्षों का चक्रवृद्धि ब्याज क्या होगा?

Options :

1. ✖ 2218.4 रुपये

2. ✔ 2118.4 रुपये

3. ✖ 1998.4 रुपये

4. ✖ 2198.4 रुपये

Question Number : 104 Question Id : 54592745150 Question Type : MCQ Option Shuffling : Yes  
Correct Marks : 1 Wrong Marks : 0.25

What will be the amount on a sum of Rs 8000 for two years on compound interest (compounding annually) at the rate of 10% per annum?

Options :

1. ✖ Rs 9500

2. ✖ Rs 9580

3. ✔ Rs 9680

4. ✖ Rs 9700

Question Number : 104 Question Id : 54592745150 Question Type : MCQ Option Shuffling : Yes  
Correct Marks : 1 Wrong Marks : 0.25

एक 8000 रुपये की राशि पर चक्रवृद्धि ब्याज (वार्षिक संयोजन पर) से 10% प्रति वर्ष की ब्याज दर से दो वर्षों में मिश्रधन क्या होगा?

Options :

1. ✖ 9500 रुपये

2. ✖ 9580 रुपये

3. ✔ 9680 रुपये

4. ✖ 9700 रुपये

Question Number : 105 Question Id : 54592745151 Question Type : MCQ Option Shuffling : Yes  
Correct Marks : 1 Wrong Marks : 0.25

If 8% rate of interest compounded yearly is equivalent to the  $x\%$  rate of interest compounded half yearly, then what is the value of  $x$ ?

Options :

1. ✖ 6.98 percent
2. ✖ 7.24 percent
3. ✔ 7.84 percent
4. ✖ 6.68 percent

Question Number : 105 Question Id : 54592745151 Question Type : MCQ Option Shuffling : Yes

Correct Marks : 1 Wrong Marks : 0.25

यदि वार्षिक चक्रवृद्धि ब्याज की 8% दर, अर्धवार्षिक चक्रवृद्धि ब्याज की  $x\%$  दर के बराबर है, तो  $x$  का मूल्य क्या है?

Options :

1. ✖ 6.98 प्रतिशत
2. ✖ 7.24 प्रतिशत
3. ✔ 7.84 प्रतिशत
4. ✖ 6.68 प्रतिशत

Question Number : 106 Question Id : 54592745152 Question Type : MCQ Option Shuffling : Yes

Correct Marks : 1 Wrong Marks : 0.25

A train is moving at a speed of 300 m/s. What can also the speed of this train?

Options :

1. ✖ 940 km/hr
2. ✖ 1220 km/hr
3. ✔ 1080 km/hr
4. ✖ 1100 km/hr

Question Number : 106 Question Id : 54592745152 Question Type : MCQ Option Shuffling : Yes

Correct Marks : 1 Wrong Marks : 0.25



एक रेलगाड़ी 300 मी./से. की गति से चल रही है। इस रेलगाड़ी की गति और क्या हो सकती है?

Options :

1. ✖ 940 कि.मी./घंटा
2. ✖ 1220 कि.मी./घंटा
3. ✔ 1080 कि.मी./घंटा
4. ✖ 1100 कि.मी./घंटा

Question Number : 107 Question Id : 54592745153 Question Type : MCQ Option Shuffling : Yes

Correct Marks : 1 Wrong Marks : 0.25

A train passes a standing pole in 8 seconds and a 200 metre long platform in 10 seconds. What is the length and speed of the train?

Options :

1. ✖ 800 metre, 80 m/s
2. ✖ 1000 metre, 100 m/s
3. ✔ 800 metre, 100 m/s
4. ✖ 1000 metre, 80 m/s

Question Number : 107 Question Id : 54592745153 Question Type : MCQ Option Shuffling : Yes

Correct Marks : 1 Wrong Marks : 0.25

एक रेलगाड़ी एक स्थिर खम्बे को 8 सेकण्ड में तथा 200 मीटर लम्बे प्लेटफॉर्म को 10 सेकण्ड में पार करती है। रेलगाड़ी की लम्बाई व गति क्या है?

Options :

1. ✖ 800 मीटर, 80 मी./से.
2. ✖ 1000 मीटर, 100 मी./से.
3. ✔ 800 मीटर, 100 मी./से.

4. \* 1000 मीटर, 80 मी./से.

Question Number : 108 Question Id : 54592745154 Question Type : MCQ Option Shuffling : Yes  
Correct Marks : 1 Wrong Marks : 0.25

A train covers a distance of 15 km in 10 minutes. If its speed is increased by 5 m/s, then how much time will it take to cover the same distance?

Options :

1. \* 9 min 50 sec
2. \* 8 min
3. ✓ 8 min 20 sec
4. \* 9 min 20 sec

Question Number : 108 Question Id : 54592745154 Question Type : MCQ Option Shuffling : Yes  
Correct Marks : 1 Wrong Marks : 0.25

एक रेलगाड़ी 15 कि.मी. की दूरी को 10 मिनट में तय करती है। यदि उसकी गति 5 मी./से. बढ़ा दी गई है, तो वह समान दूरी तय करने में कितना समय लेगी?

Options :

1. \* 9 मिनट 50 सेकण्ड
2. \* 8 मिनट
3. ✓ 8 मिनट 20 सेकण्ड
4. \* 9 मिनट 20 सेकण्ड

Question Number : 109 Question Id : 54592745155 Question Type : MCQ Option Shuffling : Yes  
Correct Marks : 1 Wrong Marks : 0.25

A can do a piece of work in 15 days, B can complete the same work in 30 days and C can complete the same work in 20 days. In how many days A, B and C together will complete the same work?

Options :

1. ✖ 10 days
2. ✔ 20/3 days
3. ✖ 21/5 days
4. ✖ 7 days

Question Number : 109 Question Id : 54592745155 Question Type : MCQ Option Shuffling : Yes  
Correct Marks : 1 Wrong Marks : 0.25

A एक कार्य को 15 दिनों में कर सकता है, B उसी कार्य को 30 दिनों में पूरा कर सकता है तथा C उसी कार्य को 20 दिनों में कर सकता है।  
A, B तथा C मिलकर उस कार्य को कितने दिनों में पूरा करेंगे?

Options :

1. ✖ 10 दिन
2. ✔ 20/3 दिन
3. ✖ 21/5 दिन
4. ✖ 7 दिन

Question Number : 110 Question Id : 54592745156 Question Type : MCQ Option Shuffling : Yes  
Correct Marks : 1 Wrong Marks : 0.25

30 men can build a wall in 80 days working 9 hours a day.  
How many men are required to build the same wall in 120 days working 12 hours a day?

Options :

1. ✖ 20
2. ✖ 10
3. ✔ 15
4. ✖ 25

Question Number : 110 Question Id : 54592745156 Question Type : MCQ Option Shuffling : Yes  
Correct Marks : 1 Wrong Marks : 0.25

30 पुरुष प्रतिदिन 9 घंटे कार्य करते हुए एक दीवार को 80 दिन में बना सकते हैं। प्रतिदिन 12 घंटे कार्य करते हुए उसी दीवार को 120 दिन में बनाने के लिए कितने पुरुषों की आवश्यकता है?

Options :

1. ✖ 20
2. ✖ 10
3. ✔ 15
4. ✖ 25

Question Number : 111 Question Id : 54592745157 Question Type : MCQ Option Shuffling : Yes  
Correct Marks : 1 Wrong Marks : 0.25

A can do  $(1/8)$  of a work in 4 hours. B can do  $(1/4)$  of same work in 5 hours. If they both work together, then how many hours will they take to complete  $(13/16)$  of the same work?

Options :

1. ✖ 12 hours
2. ✔ 10 hours
3. ✖ 9 hours
4. ✖ 15 hours

Question Number : 111 Question Id : 54592745157 Question Type : MCQ Option Shuffling : Yes  
Correct Marks : 1 Wrong Marks : 0.25

A एक कार्य का  $(1/8)$  भाग 4 घंटे में कर सकता है। B उसी कार्य का  $(1/4)$  भाग 5 घंटे में पूरा कर सकता है। यदि वह दोनों साथ कार्य करें, तो समान कार्य के  $(13/16)$  को पूरा करने के लिए वह कितने घंटे लेंगे?

Options :

1. ✖ 12 घंटे
2. ✔ 10 घंटे

3. ✖ 9 घंटे

4. ✖ 15 घंटे

Question Number : 112 Question Id : 54592745158 Question Type : MCQ Option Shuffling : Yes

Correct Marks : 1 Wrong Marks : 0.25

यदि एक वृत्त की परिधि 44 से.मी. है, तो उसका क्षेत्रफल क्या है?

Options :

1. ✖ 164 से.मी.<sup>2</sup>

2. ✔ 154 से.मी.<sup>2</sup>

3. ✖ 144 से.मी.<sup>2</sup>

4. ✖ 174 से.मी.<sup>2</sup>

Question Number : 112 Question Id : 54592745158 Question Type : MCQ Option Shuffling : Yes

Correct Marks : 1 Wrong Marks : 0.25

If the circumference of a circle is 44 cm, then what is its area?

Options :

1. ✖ 164 cm<sup>2</sup>

2. ✔ 154 cm<sup>2</sup>

3. ✖ 144 cm<sup>2</sup>

4. ✖ 174 cm<sup>2</sup>

Question Number : 113 Question Id : 54592745159 Question Type : MCQ Option Shuffling : Yes

Correct Marks : 1 Wrong Marks : 0.25

The radius of a hemisphere is 2.1 cm. What will be its volume?

Options :

1. ✘ 22.936 cm<sup>3</sup>

2. ✘ 32.408 cm<sup>3</sup>

3. ✘ 38.808 cm<sup>3</sup>

4. ✔ 19.404 cm<sup>3</sup>

Question Number : 113 Question Id : 54592745159 Question Type : MCQ Option Shuffling : Yes

Correct Marks : 1 Wrong Marks : 0.25

एक अर्धगोले की त्रिज्या 2.1 से.मी. है। इसका आयतन क्या होगा।

Options :

1. ✘ 22.936 से.मी.<sup>3</sup>

2. ✘ 32.408 से.मी.<sup>3</sup>

3. ✘ 38.808 से.मी.<sup>3</sup>

4. ✔ 19.404 से.मी.<sup>3</sup>

Question Number : 114 Question Id : 54592745160 Question Type : MCQ Option Shuffling : Yes

Correct Marks : 1 Wrong Marks : 0.25

A solid sphere of radius 10 cm is molded into some small spherical balls of equal radius.  
If the total surface area of the small spherical ball is  $100\pi \text{ cm}^2$ , then how many small spherical balls are there?

Options :

- 1. ✖ 6
- 2. ✔ 8
- 3. ✖ 10
- 4. ✖ 12

Question Number : 114 Question Id : 54592745160 Question Type : MCQ Option Shuffling : Yes

Correct Marks : 1 Wrong Marks : 0.25

10 से.मी. त्रिज्या के एक ठोस गोले को कुछ छोटी समान त्रिज्या वाली गोलाकार गेंदों में पिघलाया जाता है।  
यदि छोटी गोलाकार गेंद का कुल पृष्ठीय क्षेत्रफल  $100\pi$  से.मी.<sup>2</sup> है, तो कितनी छोटी गोलाकार गेंदें हैं?

Options :

- 1. ✖ 6
- 2. ✔ 8
- 3. ✖ 10
- 4. ✖ 12

Question Number : 115 Question Id : 54592745161 Question Type : MCQ Option Shuffling : Yes

Correct Marks : 1 Wrong Marks : 0.25

The table given below shows marks obtained by 3 students in 3 examinations.

Students	Examination		
	E1	E2	E3
S1	68	65	76
S2	74	71	63
S3	81	59	54

What are the average marks obtained by S2 per examination?

Options :

- 1. ✖ 71.33
- 2. ✔ 69.33

3. \* 66.66

4. \* 70.66

Question Number : 115 Question Id : 54592745161 Question Type : MCQ Option Shuffling : Yes

Correct Marks : 1 Wrong Marks : 0.25

नीचे दी गयी तालिका 3 विद्यार्थियों द्वारा 3 परिक्षाओं में प्राप्त अंकों को दर्शाती है।

विद्यार्थी	परीक्षा		
	E1	E2	E3
S1	68	65	76
S2	74	71	63
S3	81	59	54

S2 द्वारा प्राप्त प्रति परिक्षा औसत अंक क्या हैं?

Options :

1. \* 71.33

2. ✓ 69.33

3. \* 66.66

4. \* 70.66

Question Number : 116 Question Id : 54592745162 Question Type : MCQ Option Shuffling : Yes

Correct Marks : 1 Wrong Marks : 0.25

The table given below shows the number of pillow covers manufactured by a factory on different days of a week.

Days	Number of pillow covers
D1	50
D2	65
D3	68
D4	73
D5	80

What is the percentage increase in number of pillow cover manufactured on day D5 from day D1?

Options :



1. ✖ 50 percent

2. ✔ 60 percent

3. ✖ 70 percent

4. ✖ 75 percent

Question Number : 116 Question Id : 54592745162 Question Type : MCQ Option Shuffling : Yes

Correct Marks : 1 Wrong Marks : 0.25

नीचे दी गयी तालिका एक सप्ताह के विभिन्न दिनों पर एक फैक्ट्री द्वारा निर्मित पिल्लो कवर की संख्या को दर्शाती है।

दिन	पिल्लो कवर की संख्या
D1	50
D2	65
D3	68
D4	73
D5	80

दिन D5 में निर्मित पिल्लो कवर की संख्या में दिन D1 से कितनी प्रतिशत वृद्धि हुई है?

Options :

1. ✖ 50 प्रतिशत

2. ✔ 60 प्रतिशत

3. ✖ 70 प्रतिशत

4. ✖ 75 प्रतिशत

Question Number : 117 Question Id : 54592745163 Question Type : MCQ Option Shuffling : Yes

Correct Marks : 1 Wrong Marks : 0.25

The table given below shows the number of phones produced by a factory in different years.

Years	Number of phones
Y1	322
Y2	400
Y3	418
Y4	520
Y5	564

The number of phones produced in year Y3 is how much percentage less than the phones produced in year Y5?

Options :

- ✘ 24 percent
- ✘ 24.88 percent
- ✘ 25 percent
- ✔ 25.88 percent

Question Number : 117 Question Id : 54592745163 Question Type : MCQ Option Shuffling : Yes

Correct Marks : 1 Wrong Marks : 0.25

नीचे दी गयी तालिका विभिन्न वर्षों में एक फैक्ट्री द्वारा उत्पादित फोन की संख्या को दर्शाती है।

वर्ष	फोन की संख्या
Y1	322
Y2	400
Y3	418
Y4	520
Y5	564

वर्ष Y3 में उत्पादित फोन की संख्या वर्ष Y5 में उत्पादित फोन से कितनी प्रतिशत कम है?

Options :

- ✘ 24 प्रतिशत
- ✘ 24.88 प्रतिशत

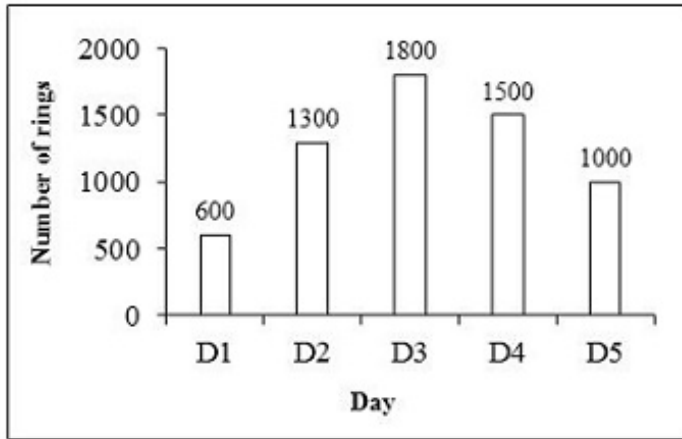
3. ✖ 25 प्रतिशत

4. ✔ 25.88 प्रतिशत

Question Number : 118 Question Id : 54592745164 Question Type : MCQ Option Shuffling : Yes

Correct Marks : 1 Wrong Marks : 0.25

The bar graph given below shows the number of rings sold by a person on different days of a week.



What are the total number of rings sold by the person on all the 5 days together?

Options :

1. ✖ 6000

2. ✔ 6200

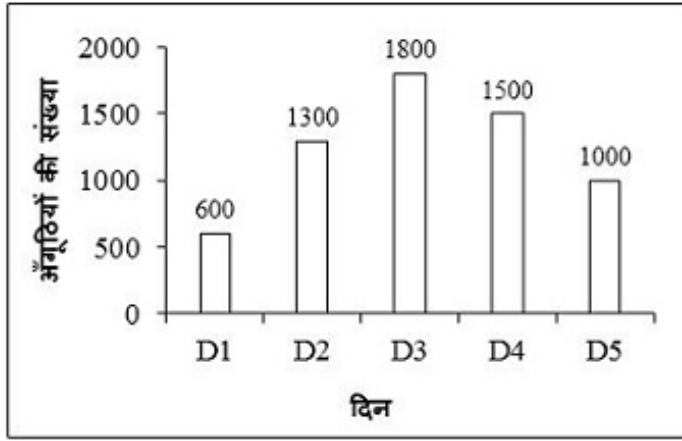
3. ✖ 6400

4. ✖ 6600

Question Number : 118 Question Id : 54592745164 Question Type : MCQ Option Shuffling : Yes

Correct Marks : 1 Wrong Marks : 0.25

नीचे दिया गया दण्ड चित्र एक सप्ताह के विभिन्न दिनों में एक व्यक्ति द्वारा बेची गई अंगूठियों की संख्या को दर्शाता है।



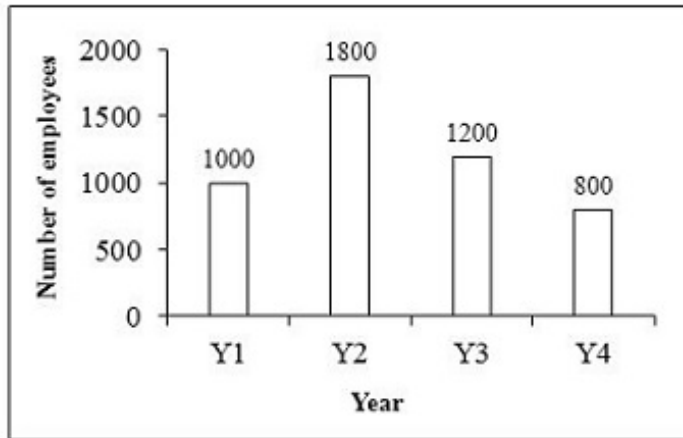
सभी 5 दिनों में मिलाकर व्यक्ति द्वारा बेची गई अंगूठियों की कुल संख्या क्या है?

Options :

1. ✘ 6000
2. ✔ 6200
3. ✘ 6400
4. ✘ 6600

Question Number : 119 Question Id : 54592745165 Question Type : MCQ Option Shuffling : Yes  
Correct Marks : 1 Wrong Marks : 0.25

The bar graph given below shows the number of employees working in a company in four consecutive years.



Number of employees working in year Y4 are what percentage of number of employees working in year Y1?

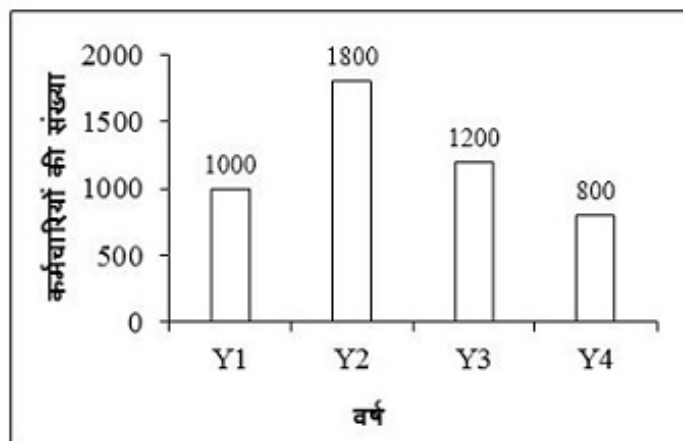
Options :

1. ✓ 80 percent
2. ✗ 90 percent
3. ✗ 95 percent
4. ✗ 100 percent

Question Number : 119 Question Id : 54592745165 Question Type : MCQ Option Shuffling : Yes

Correct Marks : 1 Wrong Marks : 0.25

नीचे दिया गया दण्ड चित्र चार क्रमागत वर्ष में एक कंपनी में कार्य कर रहे कर्मचारियों की संख्या को दर्शाता है।



वर्ष Y4 में कार्य कर रहे कर्मचारियों की संख्या वर्ष Y1 में कार्य कर रहे कर्मचारियों की संख्या की कितनी प्रतिशत है?

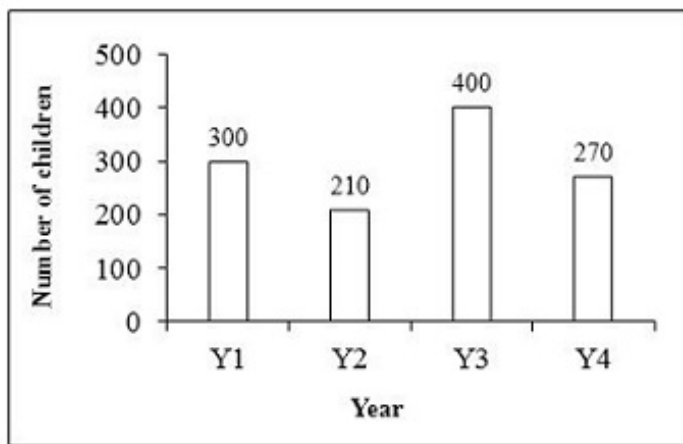
Options :

1. ✓ 80 प्रतिशत
2. ✗ 90 प्रतिशत
3. ✗ 95 प्रतिशत
4. ✗ 100 प्रतिशत

Question Number : 120 Question Id : 54592745166 Question Type : MCQ Option Shuffling : Yes

Correct Marks : 1 Wrong Marks : 0.25

The bar graph given below shows the number of children took birth in a hospital in 4 years.



The number of children that took birth in year Y4 are what percentage of the number of children took birth in year Y1?

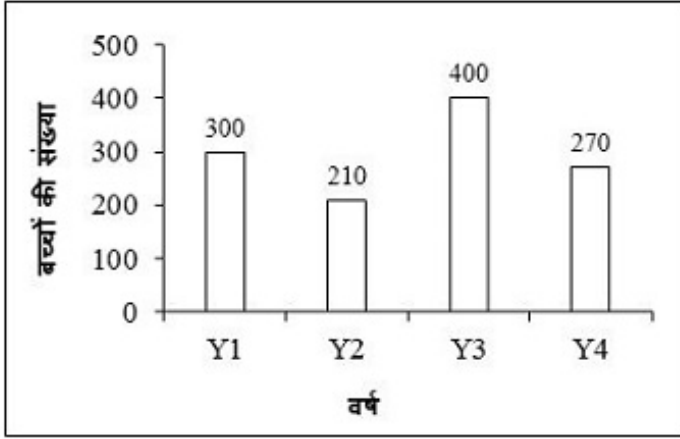
Options :

1. ✓ 90 percent
2. ✗ 100 percent
3. ✗ 110 percent
4. ✗ 120 percent

Question Number : 120 Question Id : 54592745166 Question Type : MCQ Option Shuffling : Yes

Correct Marks : 1 Wrong Marks : 0.25

नीचे दिया गया दण्ड चित्र 4 वर्षों में एक अस्पताल में जन्म लेने वाले बच्चों की संख्या को दर्शाता है।



वर्ष Y4 में जन्म लेने वाले बच्चों की संख्या वर्ष Y1 में जन्म लेने वाले बच्चों की संख्या की कितनी प्रतिशत है?

Options :

1. ✓ 90 प्रतिशत
2. ✗ 100 प्रतिशत
3. ✗ 110 प्रतिशत
4. ✗ 120 प्रतिशत

## General English1

Group Number :	7
Group Id :	5459272237
Group Maximum Duration :	0
Group Minimum Duration :	0
Show Attended Group? :	No
Edit Attended Group? :	No
Break time:	0
Group Marks:	20
Is this Group for Examiner? :	No
Revisit allowed for group Instructions? :	Yes
Maximum Instruction Time:	0
Minimum Instruction Time:	0

Section Id :	5459272237
Section Number :	1
Section type :	Online
Mandatory or Optional:	Mandatory
Number of Questions:	20
Number of Questions to be attempted:	20
Section Marks:	20

Sub-Section Number:	1
Sub-Section Id:	5459272683
Question Shuffling Allowed :	Yes

Question Number : 121 Question Id : 54592745167 Question Type : MCQ Option Shuffling : Yes

Correct Marks : 1 Wrong Marks : 0.25

A sentence has been given with a blank to be filled with an appropriate word. Choose the correct alternative.

\_\_\_\_\_ have you asked.

Options :

1. ✓ Whom
2. ✗ Who
3. ✗ Whose
4. ✗ Which

Question Number : 121 Question Id : 54592745167 Question Type : MCQ Option Shuffling : Yes

Correct Marks : 1 Wrong Marks : 0.25

A sentence has been given with a blank to be filled with an appropriate word. Choose the correct alternative.

\_\_\_\_\_ have you asked.

Options :

1. ✓ Whom
2. ✗ Who
3. ✗ Whose



#### 4. ✖ Which

Question Number : 122 Question Id : 54592745168 Question Type : MCQ Option Shuffling : Yes  
Correct Marks : 1 Wrong Marks : 0.25

A sentence has been given with a blank to be filled with an appropriate word. Choose the correct alternative.

After the sun \_\_\_\_\_, the weather became warm.

Options :

1. ✖ risen
2. ✔ had risen
3. ✖ had rose
4. ✖ have risen

Question Number : 122 Question Id : 54592745168 Question Type : MCQ Option Shuffling : Yes  
Correct Marks : 1 Wrong Marks : 0.25

A sentence has been given with a blank to be filled with an appropriate word. Choose the correct alternative.

After the sun \_\_\_\_\_, the weather became warm.

Options :

1. ✖ risen
2. ✔ had risen
3. ✖ had rose
4. ✖ have risen

Question Number : 123 Question Id : 54592745169 Question Type : MCQ Option Shuffling : Yes  
Correct Marks : 1 Wrong Marks : 0.25

A sentence has been given with a blank to be filled with an appropriate word. Choose the correct alternative.

Are you travelling to London \_\_\_\_\_ business or \_\_\_\_\_ holiday.

Options :

1. ✓ for

2. ✗ to

3. ✗ on

4. ✗ in

Question Number : 123 Question Id : 54592745169 Question Type : MCQ Option Shuffling : Yes

Correct Marks : 1 Wrong Marks : 0.25

A sentence has been given with a blank to be filled with an appropriate word. Choose the correct alternative.

Are you travelling to London \_\_\_\_\_ business or \_\_\_\_\_ holiday.

Options :

1. ✓ for

2. ✗ to

3. ✗ on

4. ✗ in

Question Number : 124 Question Id : 54592745170 Question Type : MCQ Option Shuffling : Yes

Correct Marks : 1 Wrong Marks : 0.25

A sentence has been given with a blank to be filled with an appropriate word. Choose the correct alternative.

The applicants were \_\_\_\_\_ than expected.

Options :

1. ✖ less
2. ✖ lesser
3. ✖ few
4. ✔ fewer

Question Number : 124 Question Id : 54592745170 Question Type : MCQ Option Shuffling : Yes  
Correct Marks : 1 Wrong Marks : 0.25

A sentence has been given with a blank to be filled with an appropriate word. Choose the correct alternative.

The applicants were \_\_\_\_\_ than expected.

Options :

1. ✖ less
2. ✖ lesser
3. ✖ few
4. ✔ fewer

Question Number : 125 Question Id : 54592745171 Question Type : MCQ Option Shuffling : Yes  
Correct Marks : 1 Wrong Marks : 0.25

A sentence has been given with a blank to be filled with an appropriate word. Choose the correct alternative.

He is leaving \_\_\_\_\_ Ahemadabad tonight.

Options :

1. ✖ towards
2. ✖ across
3. ✖ to
4. ✔ for

Question Number : 125 Question Id : 54592745171 Question Type : MCQ Option Shuffling : Yes

Correct Marks : 1 Wrong Marks : 0.25

A sentence has been given with a blank to be filled with an appropriate word. Choose the correct alternative.

He is leaving \_\_\_\_\_ Ahemadabad tonight.

Options :

1. ✖ towards
2. ✖ across
3. ✖ to
4. ✔ for

Question Number : 126 Question Id : 54592745172 Question Type : MCQ Option Shuffling : Yes

Correct Marks : 1 Wrong Marks : 0.25

A sentence has been given with a blank to be filled with an appropriate word. Choose the correct alternative.

Her \_\_\_\_\_ insult made me angry.

Options :

1. ✖ apprehensive
2. ✖ discerning
3. ✔ gratuitous
4. ✖ exquisite

Question Number : 126 Question Id : 54592745172 Question Type : MCQ Option Shuffling : Yes

Correct Marks : 1 Wrong Marks : 0.25

A sentence has been given with a blank to be filled with an appropriate word. Choose the correct alternative.

Her \_\_\_\_\_ insult made me angry.

Options :

1. ✘ apprehensive
2. ✘ discerning
3. ✔ gratuitous
4. ✘ exquisite

Question Number : 127 Question Id : 54592745173 Question Type : MCQ Option Shuffling : Yes  
Correct Marks : 1 Wrong Marks : 0.25

Find the part of the given sentence that has an error in it. If there is no error, choose 'No error'.

The boy (1)/ standing in the (2)/ corner is fat (3)/. No error (4)

Options :

1. ✘ 1
2. ✘ 2
3. ✘ 3
4. ✔ 4

Question Number : 127 Question Id : 54592745173 Question Type : MCQ Option Shuffling : Yes  
Correct Marks : 1 Wrong Marks : 0.25

Find the part of the given sentence that has an error in it. If there is no error, choose 'No error'.

The boy (1)/ standing in the (2)/ corner is fat (3)/. No error (4)

Options :

1. ✘ 1
2. ✘ 2
3. ✘ 3

4. ✓ 4

Question Number : 128 Question Id : 54592745174 Question Type : MCQ Option Shuffling : Yes  
Correct Marks : 1 Wrong Marks : 0.25

Find the part of the given sentence that has an error in it. If there is no error, choose 'No error'.

You should (1)/ come to school (2)/ on time (3)/. No error (4)

Options :

1. ✗ 1

2. ✗ 2

3. ✗ 3

4. ✓ 4

Question Number : 128 Question Id : 54592745174 Question Type : MCQ Option Shuffling : Yes  
Correct Marks : 1 Wrong Marks : 0.25

Find the part of the given sentence that has an error in it. If there is no error, choose 'No error'.

You should (1)/ come to school (2)/ on time (3)/. No error (4)

Options :

1. ✗ 1

2. ✗ 2

3. ✗ 3

4. ✓ 4

Question Number : 129 Question Id : 54592745175 Question Type : MCQ Option Shuffling : Yes  
Correct Marks : 1 Wrong Marks : 0.25

Find the part of the given sentence that has an error in it. If there is no error, choose 'No error'.

She did (1)/ nothing use (2)/ laugh and sing (3)/. No error (4)

Options :

1. ✖ 1

2. ✔ 2

3. ✖ 3

4. ✖ 4

Question Number : 129 Question Id : 54592745175 Question Type : MCQ Option Shuffling : Yes

Correct Marks : 1 Wrong Marks : 0.25

Find the part of the given sentence that has an error in it. If there is no error, choose 'No error'.

She did (1)/ nothing use (2)/ laugh and sing (3)/. No error (4)

Options :

1. ✖ 1

2. ✔ 2

3. ✖ 3

4. ✖ 4

Question Number : 130 Question Id : 54592745176 Question Type : MCQ Option Shuffling : Yes

Correct Marks : 1 Wrong Marks : 0.25

Choose an idiom which means :

A strong opposition to something

Options :

1. ✖ To go to the dogs
2. ✔ Over my dead body
3. ✖ Dog tired
4. ✖ To face the music

Question Number : 130 Question Id : 54592745176 Question Type : MCQ Option Shuffling : Yes  
Correct Marks : 1 Wrong Marks : 0.25

Choose an idiom which means :

A strong opposition to something

Options :

1. ✖ To go to the dogs
2. ✔ Over my dead body
3. ✖ Dog tired
4. ✖ To face the music

Question Number : 131 Question Id : 54592745177 Question Type : MCQ Option Shuffling : Yes  
Correct Marks : 1 Wrong Marks : 0.25

Choose the word that can substitute the given sentence.

A person who deliberately sets fire to a building

Options :

1. ✔ Arsonist
2. ✖ Hooligan
3. ✖ Anarchist
4. ✖ Apostate

Question Number : 131 Question Id : 54592745177 Question Type : MCQ Option Shuffling : Yes  
Correct Marks : 1 Wrong Marks : 0.25



Choose the word that can substitute the given sentence.

A person who deliberately sets fire to a building

Options :

1. ✓ Arsonist
2. ✗ Hooligan
3. ✗ Anarchist
4. ✗ Apostate

Question Number : 132 Question Id : 54592745178 Question Type : MCQ Option Shuffling : Yes  
Correct Marks : 1 Wrong Marks : 0.25

Choose the word that can substitute the given sentence.

One who studies the evolution of mankind

Options :

1. ✗ Philologist
2. ✓ Anthropologist
3. ✗ Psephologist
4. ✗ Calligrapher

Question Number : 132 Question Id : 54592745178 Question Type : MCQ Option Shuffling : Yes  
Correct Marks : 1 Wrong Marks : 0.25

Choose the word that can substitute the given sentence.

One who studies the evolution of mankind

Options :

1. ✗ Philologist
2. ✓ Anthropologist

3. ✖ Psephologist

4. ✖ Calligrapher

Question Number : 133 Question Id : 54592745179 Question Type : MCQ Option Shuffling : Yes

Correct Marks : 1 Wrong Marks : 0.25

Choose the word that can substitute the given sentence.

Government by new or inexperienced hands

Options :

1. ✖ Kakistocracy

2. ✔ Neocracy

3. ✖ Ochlocracy

4. ✖ Theocracy

Question Number : 133 Question Id : 54592745179 Question Type : MCQ Option Shuffling : Yes

Correct Marks : 1 Wrong Marks : 0.25

Choose the word that can substitute the given sentence.

Government by new or inexperienced hands

Options :

1. ✖ Kakistocracy

2. ✔ Neocracy

3. ✖ Ochlocracy

4. ✖ Theocracy

Question Number : 134 Question Id : 54592745180 Question Type : MCQ Option Shuffling : Yes

Correct Marks : 1 Wrong Marks : 0.25

Rearrange the parts of the sentence in correct order.

It is important for:

P: many of us find it difficult

Q: to strike up a friendship

R: us to have friends but

Options :

1. ✖ PRQ

2. ✔ RPQ

3. ✖ QRP

4. ✖ RQP

Question Number : 134 Question Id : 54592745180 Question Type : MCQ Option Shuffling : Yes

Correct Marks : 1 Wrong Marks : 0.25

Rearrange the parts of the sentence in correct order.

It is important for:

P: many of us find it difficult

Q: to strike up a friendship

R: us to have friends but

Options :

1. ✖ PRQ

2. ✔ RPQ

3. ✖ QRP

4. ✖ RQP

Question Number : 135 Question Id : 54592745181 Question Type : MCQ Option Shuffling : Yes

Correct Marks : 1 Wrong Marks : 0.25

In the given question, four words are given out of which one word is correctly spelt. Choose the correctly spelt word.

Options :

1. ✓ Stopper
2. ✗ Stoppar
3. ✗ Sttoper
4. ✗ Stoopar

Question Number : 135 Question Id : 54592745181 Question Type : MCQ Option Shuffling : Yes  
Correct Marks : 1 Wrong Marks : 0.25

In the given question, four words are given out of which one word is correctly spelt. Choose the correctly spelt word.

Options :

1. ✓ Stopper
2. ✗ Stoppar
3. ✗ Sttoper
4. ✗ Stoopar

Question Number : 136 Question Id : 54592745182 Question Type : MCQ Option Shuffling : Yes  
Correct Marks : 1 Wrong Marks : 0.25

Choose the word that means the same as the given word.

ABET

Options :

1. ✗ hamper
2. ✗ protest
3. ✗ oppose
4. ✓ support

Question Number : 136 Question Id : 54592745182 Question Type : MCQ Option Shuffling : Yes  
Correct Marks : 1 Wrong Marks : 0.25

Choose the word that means the same as the given word.

ABET

Options :

1. ✖ hamper
2. ✖ protest
3. ✖ oppose
4. ✔ support

Question Number : 137 Question Id : 54592745183 Question Type : MCQ Option Shuffling : Yes  
Correct Marks : 1 Wrong Marks : 0.25

Choose an odd one out:

Options :

1. ✖ mock
2. ✖ taunt
3. ✖ deride
4. ✔ inspire

Question Number : 137 Question Id : 54592745183 Question Type : MCQ Option Shuffling : Yes  
Correct Marks : 1 Wrong Marks : 0.25

Choose an odd one out:

Options :

1. ✖ mock
2. ✖ taunt
3. ✖ deride
4. ✔ inspire

Question Number : 138 Question Id : 54592745184 Question Type : MCQ Option Shuffling : Yes  
Correct Marks : 1 Wrong Marks : 0.25

Choose the word that means the same as the given word.

SCANTY

Options :

1. ✖ lavish
2. ✔ scarce
3. ✖ imbecile
4. ✖ discord

Question Number : 138 Question Id : 54592745184 Question Type : MCQ Option Shuffling : Yes

Correct Marks : 1 Wrong Marks : 0.25

Choose the word that means the same as the given word.

SCANTY

Options :

1. ✖ lavish
2. ✔ scarce
3. ✖ imbecile
4. ✖ discord

Question Number : 139 Question Id : 54592745185 Question Type : MCQ Option Shuffling : Yes

Correct Marks : 1 Wrong Marks : 0.25

Improve the bracketed part of the sentence.

He (absented) from the party.

Options :

1. ✔ absented himself
2. ✖ took absence
3. ✖ was absented

## 4. ✖ No Improvement

Question Number : 139 Question Id : 54592745185 Question Type : MCQ Option Shuffling : Yes  
Correct Marks : 1 Wrong Marks : 0.25

Improve the bracketed part of the sentence.

He (absented) from the party.

Options :

1. ✔ absented himself
2. ✖ took absence
3. ✖ was absented
4. ✖ No Improvement

Question Number : 140 Question Id : 54592745186 Question Type : MCQ Option Shuffling : Yes  
Correct Marks : 1 Wrong Marks : 0.25

Improve the bracketed part of the sentence.

Does she need (few) money?

Options :

1. ✔ some
2. ✖ a little
3. ✖ a some
4. ✖ No Improvement

Question Number : 140 Question Id : 54592745186 Question Type : MCQ Option Shuffling : Yes  
Correct Marks : 1 Wrong Marks : 0.25

Improve the bracketed part of the sentence.

Does she need (few) money?

Options :

1. ✓ some

2. ✗ a little

3. ✗ a some

4. ✗ No Improvement

## General English2

Group Number :	8
Group Id :	5459272238
Group Maximum Duration :	0
Group Minimum Duration :	0
Show Attended Group? :	No
Edit Attended Group? :	No
Break time:	0
Group Marks:	20
Is this Group for Examiner?:	No
Revisit allowed for group Instructions? :	Yes
Maximum Instruction Time:	0
Minimum Instruction Time:	0

## General English2

Section Id :	5459272238
Section Number :	1
Section type :	Online
Mandatory or Optional:	Mandatory
Number of Questions:	16
Number of Questions to be attempted:	16
Section Marks:	20

Sub-Section Number:	1
Sub-Section Id:	5459272684
Question Shuffling Allowed :	Yes

Question Number : 141 Question Id : 54592745187 Question Type : MCQ Option Shuffling : Yes  
Correct Marks : 1 Wrong Marks : 0.25

Improve the bracketed part of the sentence.

Would you mind (to leave) me alone?

Options :



1. ✓ leaving
2. ✗ leave
3. ✗ to have leave
4. ✗ No Improvement

Question Number : 141 Question Id : 54592745187 Question Type : MCQ Option Shuffling : Yes  
Correct Marks : 1 Wrong Marks : 0.25

Improve the bracketed part of the sentence.

Would you mind (to leave) me alone?

Options :

1. ✓ leaving
2. ✗ leave
3. ✗ to have leave
4. ✗ No Improvement

Question Number : 142 Question Id : 54592745188 Question Type : MCQ Option Shuffling : Yes  
Correct Marks : 1 Wrong Marks : 0.25

A sentence has been given with a blank to be filled with an appropriate word. Choose the correct alternative.

Rahul has \_\_\_\_\_ a car.

Options :

1. ✗ buy
2. ✓ bought
3. ✗ buyed
4. ✗ gotten

Question Number : 142 Question Id : 54592745188 Question Type : MCQ Option Shuffling : Yes  
Correct Marks : 1 Wrong Marks : 0.25

A sentence has been given with a blank to be filled with an appropriate word. Choose the correct alternative.

Rahul has \_\_\_\_\_ a car.

Options :

1. ✘ buy
2. ✔ bought
3. ✘ buyed
4. ✘ gotten

Question Number : 143 Question Id : 54592745189 Question Type : MCQ Option Shuffling : Yes

Correct Marks : 1 Wrong Marks : 0.25

Find the part of the given sentence that has an error in it. If there is no error, choose 'No error'.

The girl (1)/ wear a red frock (2)/ is my sister (3)/. No error (4)

Options :

1. ✘ 1
2. ✔ 2
3. ✘ 3
4. ✘ 4

Question Number : 143 Question Id : 54592745189 Question Type : MCQ Option Shuffling : Yes

Correct Marks : 1 Wrong Marks : 0.25

Find the part of the given sentence that has an error in it.  
If there is no error, choose 'No error'.

The girl (1)/ wear a red frock (2)/ is my sister (3)/. No error (4)

Options :

1. ✖ 1

2. ✔ 2

3. ✖ 3

4. ✖ 4

Question Number : 144 Question Id : 54592745190 Question Type : MCQ Option Shuffling : Yes

Correct Marks : 1 Wrong Marks : 0.25

In the following question, out of the given four alternatives, select the alternative which best expresses the meaning of the Idiom/Phrase.

Two peas in a pod

Options :

1. ✖ A bad person

2. ✖ A real loved one

3. ✖ A very intimate friend

4. ✔ People with similar interests

Question Number : 144 Question Id : 54592745190 Question Type : MCQ Option Shuffling : Yes

Correct Marks : 1 Wrong Marks : 0.25

In the following question, out of the given four alternatives, select the alternative which best expresses the meaning of the Idiom/Phrase.

Two peas in a pod

Options :

1. ✖ A bad person
2. ✖ A real loved one
3. ✖ A very intimate friend
4. ✔ People with similar interests

Question Number : 145 Question Id : 54592745191 Question Type : MCQ Option Shuffling : Yes

Correct Marks : 1 Wrong Marks : 0.25

Rearrange the parts of the sentence in correct order.

Staying active:

P: body functioning

Q: means keeping your

R: at a high level

Options :

1. ✖ PRQ
2. ✔ QPR
3. ✖ RPQ
4. ✖ QRP

Question Number : 145 Question Id : 54592745191 Question Type : MCQ Option Shuffling : Yes

Correct Marks : 1 Wrong Marks : 0.25

Rearrange the parts of the sentence in correct order.

Staying active:

P: body functioning

Q: means keeping your

R: at a high level

Options :

1. ✖ PRQ

2. ✔ QPR

3. ✖ RPQ

4. ✖ QRP

Question Number : 146 Question Id : 54592745192 Question Type : MCQ Option Shuffling : Yes

Correct Marks : 1 Wrong Marks : 0.25

In the given question, four words are given out of which one word is correctly spelt. Choose the correctly spelt word.

Options :

1. ✖ Fireing

2. ✔ Firing

3. ✖ Fhining

4. ✖ Firrreing

Question Number : 146 Question Id : 54592745192 Question Type : MCQ Option Shuffling : Yes

Correct Marks : 1 Wrong Marks : 0.25

In the given question, four words are given out of which one word is correctly spelt. Choose the correctly spelt word.

Options :

1. ✖ Fireing

2. ✓ Firing

3. ✗ Fhining

4. ✗ Firreing

Question Number : 147 Question Id : 54592745193 Question Type : MCQ Option Shuffling : Yes  
Correct Marks : 1 Wrong Marks : 0.25

Which of the following is Not a synonym–antonym pair?

Options :

1. ✗ abolish – create

2. ✗ sober – unreserved

3. ✓ conceptual – synopsis

4. ✗ actual – abstract

Question Number : 147 Question Id : 54592745193 Question Type : MCQ Option Shuffling : Yes  
Correct Marks : 1 Wrong Marks : 0.25

Which of the following is Not a synonym-antonym pair?

Options :

1. ✗ abolish - create

2. ✗ sober - unreserved

3. ✓ conceptual - synopsis

4. ✗ actual - abstract

Question Number : 148 Question Id : 54592745194 Question Type : MCQ Option Shuffling : Yes  
Correct Marks : 1 Wrong Marks : 0.25

Improve the bracketed part of the sentence.

Don't worry there is (less) time for the bus to leave.

Options :

1. ✗ much more

2. ✗ many

3. ✓ enough

4. ✖ No Improvement

Question Number : 148 Question Id : 54592745194 Question Type : MCQ Option Shuffling : Yes  
Correct Marks : 1 Wrong Marks : 0.25

Improve the bracketed part of the sentence.

Don't worry there is (less) time for the bus to leave.

Options :

1. ✖ much more

2. ✖ many

3. ✓ enough

4. ✖ No Improvement

Question Number : 149 Question Id : 54592745195 Question Type : MCQ Option Shuffling : Yes  
Correct Marks : 1 Wrong Marks : 0.25

A sentence has been given with a blank to be filled with an appropriate word. Choose the correct alternative.

Sheela complained \_\_\_\_\_ Shruti's behavior.

Options :

1. ✖ for

2. ✖ with

3. ✖ because

4. ✓ about

Question Number : 149 Question Id : 54592745195 Question Type : MCQ Option Shuffling : Yes  
Correct Marks : 1 Wrong Marks : 0.25

A sentence has been given with a blank to be filled with an appropriate word. Choose the correct alternative.

Sheela complained \_\_\_\_\_ Shruti's behavior.

Options :

1. ✘ for
2. ✘ with
3. ✘ because
4. ✔ about

Question Number : 150 Question Id : 54592745196 Question Type : MCQ Option Shuffling : Yes  
Correct Marks : 1 Wrong Marks : 0.25

Find the part of the given sentence that has an error in it. If there is no error, choose 'No error'.

I met (1)/ an old women (2)/ in the market (3)/ No error (4)

Options :

1. ✘ 1
2. ✔ 2
3. ✘ 3
4. ✘ 4

Question Number : 150 Question Id : 54592745196 Question Type : MCQ Option Shuffling : Yes  
Correct Marks : 1 Wrong Marks : 0.25

Find the part of the given sentence that has an error in it. If there is no error, choose 'No error'.

I met (1)/ an old women (2)/ in the market (3)/ No error (4)

Options :



1. ✖ 1

2. ✔ 2

3. ✖ 3

4. ✖ 4

Question Number : 151 Question Id : 54592745197 Question Type : MCQ Option Shuffling : Yes  
Correct Marks : 1 Wrong Marks : 0.25

In the following question, out of the given four alternatives, select the alternative which best expresses the meaning of the Idiom/Phrase.

To walk an extra mile

Options :

1. ✖ Out of favour

2. ✔ To help out someone more than what is expected

3. ✖ An aim which cannot be reached

4. ✖ One who ruins other's prospects

Question Number : 151 Question Id : 54592745197 Question Type : MCQ Option Shuffling : Yes  
Correct Marks : 1 Wrong Marks : 0.25

In the following question, out of the given four alternatives, select the alternative which best expresses the meaning of the Idiom/Phrase.

To walk an extra mile

Options :

1. ✖ Out of favour

2. ✔ To help out someone more than what is expected

3. ✖ An aim which cannot be reached

4. ✖ One who ruins other's prospects

Question Number : 152 Question Id : 54592745198 Question Type : MCQ Option Shuffling : Yes

Correct Marks : 1 Wrong Marks : 0.25

Rearrange the parts of the sentence in correct order.

Some foods:

P: you feeling lethargic

Q: while others can leave

R: make you feel great

Options :

1. ✔ RQP

2. ✖ PRQ

3. ✖ QRP

4. ✖ PQR

Question Number : 152 Question Id : 54592745198 Question Type : MCQ Option Shuffling : Yes

Correct Marks : 1 Wrong Marks : 0.25

Rearrange the parts of the sentence in correct order.

Some foods:

P: you feeling lethargic

Q: while others can leave

R: make you feel great

Options :

1. ✔ RQP

2. ✖ PRQ

3. ✖ QRP

## 4. ✖ PQR

Question Number : 153 Question Id : 54592745199 Question Type : MCQ Option Shuffling : Yes  
Correct Marks : 1 Wrong Marks : 0.25

In the given question, four words are given out of which one word is correctly spelt. Choose the correctly spelt word.

Options :

1. ✖ Argumant
2. ✔ Argument
3. ✖ Arguemant
4. ✖ Argoument

Question Number : 153 Question Id : 54592745199 Question Type : MCQ Option Shuffling : Yes  
Correct Marks : 1 Wrong Marks : 0.25

In the given question, four words are given out of which one word is correctly spelt. Choose the correctly spelt word.

Options :

1. ✖ Argumant
2. ✔ Argument
3. ✖ Arguemant
4. ✖ Argoument

Question Number : 154 Question Id : 54592745200 Question Type : MCQ Option Shuffling : Yes  
Correct Marks : 1 Wrong Marks : 0.25

Choose an odd one out:

Options :

1. ✖ ablution
2. ✖ purification
3. ✔ contamination
4. ✖ sanctification

Question Number : 154 Question Id : 54592745200 Question Type : MCQ Option Shuffling : Yes  
Correct Marks : 1 Wrong Marks : 0.25

Choose an odd one out:

Options :

1. ✖ ablution
2. ✖ purification
3. ✔ contamination
4. ✖ sanctification

Question Number : 155 Question Id : 54592745201 Question Type : MCQ Option Shuffling : Yes  
Correct Marks : 1 Wrong Marks : 0.25

Improve the bracketed part of the sentence.

(Would) you like some water?

Options :

1. ✖ Shall
2. ✖ Can
3. ✖ Do
4. ✔ No Improvement

Question Number : 155 Question Id : 54592745201 Question Type : MCQ Option Shuffling : Yes  
Correct Marks : 1 Wrong Marks : 0.25

Improve the bracketed part of the sentence.

(Would) you like some water?

Options :

1. ✖ Shall
2. ✖ Can
3. ✖ Do

## 4. ✓ No Improvement

**Sub-Section Number:** 2  
**Sub-Section Id:** 5459272685  
**Question Shuffling Allowed :** Yes

**Question Id : 54592745202 Question Type : COMPREHENSION Sub Question Shuffling Allowed : Yes Group Comprehension Questions : No**

**Question Numbers : (156 to 160)**

**Question Label : Comprehension**

Read the following information carefully and answer the given questions.

Samuel Langhorne Clemens known by his pen name Mark Twain, was an American writer, humourist, entrepreneur, publisher, and lecturer. He was lauded as the "greatest humourist this country has produced", and William Faulkner called him "the father of American literature". His novels include *The Adventures of Tom Sawyer* (1876) and its sequel, *The Adventures of Huckleberry Finn* (1885), the latter often called "The Great American Novel".

Twain was raised in Hannibal, Missouri, which later provided the setting for *Tom Sawyer* and *Huckleberry Finn*. He served an apprenticeship with a printer and then worked as a typesetter, contributing articles to the newspaper of his older brother Orion Clemens. He later became a riverboat pilot on the Mississippi River before heading west to join Orion in Nevada. He referred humorously to his lack of success at mining, turning to journalism for the *Virginia City Territorial Enterprise*. His humorous story, "The Celebrated Jumping Frog of Calaveras County", was published in 1865, based on a story that he heard at Angels Hotel in Angels Camp, California, where he had spent some time as a miner. The short story brought international attention and was even translated into French. His wit and satire, in prose and in speech, earned praise from critics and peers, and he was a friend to presidents, artists, industrialists, and European royalty.

Twain earned a great deal of money from his writings and lectures, but he invested in ventures that lost most of it—such as the Paige Compositor, a mechanical typesetter that failed because of its complexity and imprecision. He filed for bankruptcy in the wake of these financial setbacks, but he eventually overcame his financial troubles with the help of Henry Huttleston Rogers. He eventually paid all his creditors in full, even though his bankruptcy relieved him of having to do so.

Sub questions

Question Number : 156 Question Id : 54592745203 Question Type : MCQ Option Shuffling : Yes  
Correct Marks : 1 Wrong Marks : 0.25

What did William Faulkner call Mark Twain?

Options :

1. ✖ The greatest humourist the country had produced
2. ✔ The father of American literature
3. ✖ The Great American Novelist
4. ✖ A friend to artists

Question Number : 157 Question Id : 54592745204 Question Type : MCQ Option Shuffling : Yes  
Correct Marks : 1 Wrong Marks : 0.25

For which novel has the name, The Great American Novel been kept?

Options :

1. ✖ The Adventures of Tom Sawyer
2. ✖ The Celebrated Jumping Frog of Calaveras County
3. ✔ The Adventures of Huckleberry Finn
4. ✖ Life on the Mississippi

Question Number : 158 Question Id : 54592745205 Question Type : MCQ Option Shuffling : Yes  
Correct Marks : 1 Wrong Marks : 0.25

Which of the following is not true about Mark Twain.

Options :

1. ✔ He was an American writer, humourist, publisher, and an agent
2. ✖ He earned a great deal of money from his writings
3. ✖ Twain was raised in Hannibal
4. ✖ He later became a riverboat pilot

Question Number : 159 Question Id : 54592745206 Question Type : MCQ Option Shuffling : Yes  
Correct Marks : 1 Wrong Marks : 0.25

Choose a word from the passage that means the same as “attention”.

Options :

1. ✖ Neglect
2. ✖ Indifference
3. ✔ Scrutiny
4. ✖ Laziness

Question Number : 160 Question Id : 54592745207 Question Type : MCQ Option Shuffling : Yes

Correct Marks : 1 Wrong Marks : 0.25

‘a person who extracts ore, coal, or other mineral’ can be substituted by which one word?

Options :

1. ✔ Miner
2. ✖ Vicar
3. ✖ Artist
4. ✖ Industrialist

Question Id : 54592745202 Question Type : COMPREHENSION Sub Question Shuffling Allowed : Yes Group Comprehension Questions : No

Question Numbers : (156 to 160)

Question Label : Comprehension



Read the following information carefully and answer the given questions.

Samuel Langhorne Clemens known by his pen name Mark Twain, was an American writer, humourist, entrepreneur, publisher, and lecturer. He was lauded as the "greatest humourist this country has produced", and William Faulkner called him "the father of American literature". His novels include *The Adventures of Tom Sawyer* (1876) and its sequel, *The Adventures of Huckleberry Finn* (1885), the latter often called "The Great American Novel".

Twain was raised in Hannibal, Missouri, which later provided the setting for *Tom Sawyer* and *Huckleberry Finn*. He served an apprenticeship with a printer and then worked as a typesetter, contributing articles to the newspaper of his older brother Orion Clemens. He later became a riverboat pilot on the Mississippi River before heading west to join Orion in Nevada. He referred humorously to his lack of success at mining, turning to journalism for the *Virginia City Territorial Enterprise*. His humorous story, "The Celebrated Jumping Frog of Calaveras County", was published in 1865, based on a story that he heard at Angels Hotel in Angels Camp, California, where he had spent some time as a miner. The short story brought international attention and was even translated into French. His wit and satire, in prose and in speech, earned praise from critics and peers, and he was a friend to presidents, artists, industrialists, and European royalty.

Twain earned a great deal of money from his writings and lectures, but he invested in ventures that lost most of it—such as the Paige Compositor, a mechanical typesetter that failed because of its complexity and imprecision. He filed for bankruptcy in the wake of these financial setbacks, but he eventually overcame his financial troubles with the help of Henry Huttleston Rogers. He eventually paid all his creditors in full, even though his bankruptcy relieved him of having to do so.

Sub questions

Question Number : 156 Question Id : 54592745203 Question Type : MCQ Option Shuffling : Yes  
Correct Marks : 1 Wrong Marks : 0.25

What did William Faulkner call Mark Twain?

Options :

1. ✘ The greatest humourist the country had produced
2. ✔ The father of American literature
3. ✘ The Great American Novelist
4. ✘ A friend to artists

Question Number : 157 Question Id : 54592745204 Question Type : MCQ Option Shuffling : Yes  
Correct Marks : 1 Wrong Marks : 0.25

For which novel has the name, The Great American Novel been kept?

Options :

1. ✘ The Adventures of Tom Sawyer
2. ✘ The Celebrated Jumping Frog of Calaveras County
3. ✔ The Adventures of Huckleberry Finn
4. ✘ Life on the Mississippi

Question Number : 158 Question Id : 54592745205 Question Type : MCQ Option Shuffling : Yes  
Correct Marks : 1 Wrong Marks : 0.25

Which of the following is not true about Mark Twain.

Options :

1. ✔ He was an American writer, humourist, publisher, and an agent
2. ✘ He earned a great deal of money from his writings
3. ✘ Twain was raised in Hannibal

4. ✖ He later became a riverboat pilot

Question Number : 159 Question Id : 54592745206 Question Type : MCQ Option Shuffling : Yes  
Correct Marks : 1 Wrong Marks : 0.25

Choose a word from the passage that means the same as  
“attention”.

Options :

1. ✖ Neglect
2. ✖ Indifference
3. ✔ Scrutiny
4. ✖ Laziness

Question Number : 160 Question Id : 54592745207 Question Type : MCQ Option Shuffling : Yes  
Correct Marks : 1 Wrong Marks : 0.25

‘a person who extracts ore, coal, or other mineral’ can be  
substituted by which one word?

Options :

1. ✔ Miner
2. ✖ Vicar
3. ✖ Artist
4. ✖ Industrialist

## General Hindi1

Group Number :	9
Group Id :	5459272239
Group Maximum Duration :	0
Group Minimum Duration :	0
Show Attended Group? :	No
Edit Attended Group? :	No
Break time:	0
Group Marks:	20
Is this Group for Examiner?:	No

Revisit allowed for group Instructions? :	Yes
Maximum Instruction Time:	0
Minimum Instruction Time:	0

## General Hindi1

Section Id :	5459272239
Section Number :	1
Section type :	Online
Mandatory or Optional:	Mandatory
Number of Questions:	20
Number of Questions to be attempted:	20
Section Marks:	20

Sub-Section Number:	1
Sub-Section Id:	5459272686
Question Shuffling Allowed :	Yes

Question Number : 161 Question Id : 54592745208 Question Type : MCQ Option Shuffling : Yes  
Correct Marks : 1 Wrong Marks : 0.25

दिए गए शब्द का संधि विच्छेद ज्ञात कीजिए।

वधूर्मि

Options :

1. \* व + धूर्मि
2. \* वधू + मि
3. ✓ वधू + ऊर्मि
4. \* वधू + ऊरमि

Question Number : 161 Question Id : 54592745208 Question Type : MCQ Option Shuffling : Yes  
Correct Marks : 1 Wrong Marks : 0.25

दिए गए शब्द का संधि विच्छेद ज्ञात कीजिए।

वधूर्मि

Options :

1. \* व + धूर्मि
2. \* वधू + मि

3. ✓ वधू + ऊर्मि

4. ✖ वधू + ऊरमि

Question Number : 162 Question Id : 54592745209 Question Type : MCQ Option Shuffling : Yes

Correct Marks : 1 Wrong Marks : 0.25

दिए गए शब्दों की संधि ज्ञात कीजिए।

भू + आदि

Options :

1. ✖ भूआदि

2. ✖ भूदि

3. ✓ भ्वादि

4. ✖ भूदी

Question Number : 162 Question Id : 54592745209 Question Type : MCQ Option Shuffling : Yes

Correct Marks : 1 Wrong Marks : 0.25

दिए गए शब्दों की संधि ज्ञात कीजिए।

भू + आदि

Options :

1. ✖ भूआदि

2. ✖ भूदि

3. ✓ भ्वादि

4. ✖ भूदी

Question Number : 163 Question Id : 54592745210 Question Type : MCQ Option Shuffling : Yes

Correct Marks : 1 Wrong Marks : 0.25

दिए गए शब्द में किस प्रकार की संधि है ज्ञात कीजिए।

परिमाण

Options :

1. \* गुण
2. ✓ व्यंजन
3. \* विसर्ग
4. \* यण

Question Number : 163 Question Id : 54592745210 Question Type : MCQ Option Shuffling : Yes  
Correct Marks : 1 Wrong Marks : 0.25

दिए गए शब्द में किस प्रकार की संधि है ज्ञात कीजिए।

परिमाण

Options :

1. \* गुण
2. ✓ व्यंजन
3. \* विसर्ग
4. \* यण

Question Number : 164 Question Id : 54592745211 Question Type : MCQ Option Shuffling : Yes  
Correct Marks : 1 Wrong Marks : 0.25

अनार और अंगूर कौन से शब्द हैं?

Options :

1. \* देशज
2. ✓ विदेशी
3. \* रूढ़
4. \* यौगिक

Question Number : 164 Question Id : 54592745211 Question Type : MCQ Option Shuffling : Yes  
Correct Marks : 1 Wrong Marks : 0.25

अनार और अंगूर कौन से शब्द हैं?

Options :

1. \* देशज

2. ✓ विदेशी

3. ✘ रूढ़

4. ✘ यौगिक

Question Number : 165 Question Id : 54592745212 Question Type : MCQ Option Shuffling : Yes

Correct Marks : 1 Wrong Marks : 0.25

निम्नलिखित में से कौन सा शब्द प्रश्नवाचक सर्वनाम का उदाहरण नहीं है?

Options :

1. ✘ कौन

2. ✘ क्या

3. ✘ किसे

4. ✓ कोई

Question Number : 165 Question Id : 54592745212 Question Type : MCQ Option Shuffling : Yes

Correct Marks : 1 Wrong Marks : 0.25

निम्नलिखित में से कौन सा शब्द प्रश्नवाचक सर्वनाम का उदाहरण नहीं है?

Options :

1. ✘ कौन

2. ✘ क्या

3. ✘ किसे

4. ✓ कोई

Question Number : 166 Question Id : 54592745213 Question Type : MCQ Option Shuffling : Yes

Correct Marks : 1 Wrong Marks : 0.25

दिए गए वाक्यांश के लिए उचित शब्द का चयन कीजिए।

सब लोगों को प्रिय लगने वाला

Options :

1. ✘ प्रिया

2. ✘ प्रियवर

3. \* प्रिय

4. ✓ सर्वप्रिय

Question Number : 166 Question Id : 54592745213 Question Type : MCQ Option Shuffling : Yes  
Correct Marks : 1 Wrong Marks : 0.25

दिए गए वाक्यांश के लिए उचित शब्द का चयन कीजिए।

सब लोगों को प्रिय लगने वाला

Options :

1. \* प्रिया

2. \* प्रियवर

3. \* प्रिय

4. ✓ सर्वप्रिय

Question Number : 167 Question Id : 54592745214 Question Type : MCQ Option Shuffling : Yes  
Correct Marks : 1 Wrong Marks : 0.25

दिए गए वाक्यांश के लिए उचित शब्द का चयन कीजिए।

गणित का ज्ञाता

Options :

1. ✓ गणितज्ञ

2. \* गणितज्ञाता

3. \* गणितज्ञान

4. \* गणतज्ञ

Question Number : 167 Question Id : 54592745214 Question Type : MCQ Option Shuffling : Yes  
Correct Marks : 1 Wrong Marks : 0.25

दिए गए वाक्यांश के लिए उचित शब्द का चयन कीजिए।

गणित का ज्ञाता

Options :



1. ✓ गणितज्ञ
2. ✘ गणितज्ञाता
3. ✘ गणितज्ञान
4. ✘ गणतज्ञ

Question Number : 168 Question Id : 54592745215 Question Type : MCQ Option Shuffling : Yes  
Correct Marks : 1 Wrong Marks : 0.25

दिए गए वाक्यांश के लिए उचित शब्द का चयन कीजिए।

जीने की प्रबल इच्छा

Options :

1. ✘ इच्छुक
2. ✘ प्रइच्छा
3. ✓ जिजीविषा
4. ✘ जिज्ञासु

Question Number : 168 Question Id : 54592745215 Question Type : MCQ Option Shuffling : Yes  
Correct Marks : 1 Wrong Marks : 0.25

दिए गए वाक्यांश के लिए उचित शब्द का चयन कीजिए।

जीने की प्रबल इच्छा

Options :

1. ✘ इच्छुक
2. ✘ प्रइच्छा
3. ✓ जिजीविषा
4. ✘ जिज्ञासु

Question Number : 169 Question Id : 54592745216 Question Type : MCQ Option Shuffling : Yes  
Correct Marks : 1 Wrong Marks : 0.25

निम्नलिखित में से शुद्ध वर्तनी का चयन कीजिए।

Options :

1. ✓ ब्रह्ममुहूर्त
2. \* ब्रहमुहूर्त
3. \* ब्रह्मामुहूर्त
4. \* ब्रहामुहूर्त

Question Number : 169 Question Id : 54592745216 Question Type : MCQ Option Shuffling : Yes  
Correct Marks : 1 Wrong Marks : 0.25

निम्नलिखित में से शुद्ध वर्तनी का चयन कीजिए।

Options :

1. ✓ ब्रह्ममुहूर्त
2. \* ब्रहमुहूर्त
3. \* ब्रह्मामुहूर्त
4. \* ब्रहामुहूर्त

Question Number : 170 Question Id : 54592745217 Question Type : MCQ Option Shuffling : Yes  
Correct Marks : 1 Wrong Marks : 0.25

दिए गए शब्द का पर्यायवाची ज्ञात कीजिए।

खंड

Options :

1. ✓ अंश
2. \* बाजि
3. \* गर्व
4. \* हेतु

Question Number : 170 Question Id : 54592745217 Question Type : MCQ Option Shuffling : Yes  
Correct Marks : 1 Wrong Marks : 0.25

दिए गए शब्द का पर्यायवाची ज्ञात कीजिए।

खंड

Options :

1. ✓ अंश

2. ✘ बाजि

3. ✘ गर्व

4. ✘ हेतु

Question Number : 171 Question Id : 54592745218 Question Type : MCQ Option Shuffling : Yes  
Correct Marks : 1 Wrong Marks : 0.25

दिए गए शब्द का पर्यायवाची ज्ञात कीजिए।

अनीक

Options :

1. ✘ तारिक

2. ✓ सेना

3. ✘ जलसा

4. ✘ नखत

Question Number : 171 Question Id : 54592745218 Question Type : MCQ Option Shuffling : Yes  
Correct Marks : 1 Wrong Marks : 0.25

दिए गए शब्द का पर्यायवाची ज्ञात कीजिए।

अनीक

Options :

1. ✘ तारिक

2. ✓ सेना

3. ✘ जलसा

4. ✘ नखत

Question Number : 172 Question Id : 54592745219 Question Type : MCQ Option Shuffling : Yes  
Correct Marks : 1 Wrong Marks : 0.25

निम्नलिखित में से कौन सा शब्द युग्म पुनरुक्त शब्द युग्म है?

Options :

1. \* जड़ - चेतन
2. \* गुण - दोष
3. \* उठा - पटक
4. ✓ चाय - वाय

Question Number : 172 Question Id : 54592745219 Question Type : MCQ Option Shuffling : Yes

Correct Marks : 1 Wrong Marks : 0.25

निम्नलिखित में से कौन सा शब्द युग्म पुनरुक्त शब्द युग्म है?

Options :

1. \* जड़ - चेतन
2. \* गुण - दोष
3. \* उठा - पटक
4. ✓ चाय - वाय

Question Number : 173 Question Id : 54592745220 Question Type : MCQ Option Shuffling : Yes

Correct Marks : 1 Wrong Marks : 0.25

दिए गए वाक्य में उपयुक्त शब्द का चयन करके रिक्त स्थान की पूर्ति कीजिए।

आपकी इच्छा के अनुरूप आपका \_\_\_\_\_ नहीं हुआ।

Options :

1. ✓ स्वागत
2. \* खाना
3. \* नतीजा
4. \* एहसान

Question Number : 173 Question Id : 54592745220 Question Type : MCQ Option Shuffling : Yes

Correct Marks : 1 Wrong Marks : 0.25

दिए गए वाक्य में उपयुक्त शब्द का चयन करके रिक्त स्थान की पूर्ति कीजिए।

आपकी इच्छा के अनुरूप आपका \_\_\_\_\_ नहीं हुआ।

Options :

1. ✓ स्वागत
2. ✗ खाना
3. ✗ नतीजा
4. ✗ एहसान

Question Number : 174 Question Id : 54592745221 Question Type : MCQ Option Shuffling : Yes  
Correct Marks : 1 Wrong Marks : 0.25

निम्नलिखित में से शुद्ध वर्तनी का चयन कीजिए।

Options :

1. ✗ दत्तचितत
2. ✓ दत्तचित्त
3. ✗ दततचित्त
4. ✗ दतचितत

Question Number : 174 Question Id : 54592745221 Question Type : MCQ Option Shuffling : Yes  
Correct Marks : 1 Wrong Marks : 0.25

निम्नलिखित में से शुद्ध वर्तनी का चयन कीजिए।

Options :

1. ✗ दत्तचितत
2. ✓ दत्तचित्त
3. ✗ दततचित्त
4. ✗ दतचितत

Question Number : 175 Question Id : 54592745222 Question Type : MCQ Option Shuffling : Yes  
Correct Marks : 1 Wrong Marks : 0.25

दिए गए शब्द का विलोम शब्द ज्ञात कीजिए।

अविर्भाव

Options :

1. \* ठोकर
2. ✓ तिरोभाव
3. \* कठोरता
4. \* अनेकता

Question Number : 175 Question Id : 54592745222 Question Type : MCQ Option Shuffling : Yes  
Correct Marks : 1 Wrong Marks : 0.25

दिए गए शब्द का विलोम शब्द ज्ञात कीजिए।

अविर्भाव

Options :

1. \* ठोकर
2. ✓ तिरोभाव
3. \* कठोरता
4. \* अनेकता

Question Number : 176 Question Id : 54592745223 Question Type : MCQ Option Shuffling : Yes  
Correct Marks : 1 Wrong Marks : 0.25

दिए गए वाक्य में उचित परसर्ग का चयन करके रिक्त स्थान की पूर्ति कीजिए।

मैं उसे दो हजार रुपये \_\_\_\_\_ एक चेक भेज रहा हूँ।

Options :

1. ✓ का
2. \* पर
3. \* से
4. \* में

Question Number : 176 Question Id : 54592745223 Question Type : MCQ Option Shuffling : Yes

Correct Marks : 1 Wrong Marks : 0.25

दिए गए वाक्य में उचित परसर्ग का चयन करके रिक्त स्थान की पूर्ति कीजिए।

मैं उसे दो हजार रुपये \_\_\_\_\_ एक चेक भेज रहा हूँ।

Options :

1. ✓ का
2. ✗ पर
3. ✗ से
4. ✗ में

Question Number : 177 Question Id : 54592745224 Question Type : MCQ Option Shuffling : Yes

Correct Marks : 1 Wrong Marks : 0.25

दिए गए वाक्य में उचित परसर्ग का चयन करके रिक्त स्थान की पूर्ति कीजिए।

प्रधानमंत्री \_\_\_\_\_ तरफ \_\_\_\_\_ इस मामले में कोई प्रतिक्रिया नहीं आई है।

Options :

1. ✗ की, ने
2. ✗ ने, की
3. ✓ की, से
4. ✗ से, की

Question Number : 177 Question Id : 54592745224 Question Type : MCQ Option Shuffling : Yes

Correct Marks : 1 Wrong Marks : 0.25

दिए गए वाक्य में उचित परसर्ग का चयन करके रिक्त स्थान की पूर्ति कीजिए।

प्रधानमंत्री \_\_\_\_\_ तरफ \_\_\_\_\_ इस मामले में कोई प्रतिक्रिया नहीं आई है।

Options :

1. \* की, ने
2. \* ने, की
3. ✓ की, से
4. \* से, की

Question Number : 178 Question Id : 54592745225 Question Type : MCQ Option Shuffling : Yes  
Correct Marks : 1 Wrong Marks : 0.25

निम्नलिखित में से कौन सा शब्द पुल्लिंग है?

Options :

1. ✓ खाना
2. \* दुआ
3. \* ताकत
4. \* रिश्वत

Question Number : 178 Question Id : 54592745225 Question Type : MCQ Option Shuffling : Yes  
Correct Marks : 1 Wrong Marks : 0.25

निम्नलिखित में से कौन सा शब्द पुल्लिंग है?

Options :

1. ✓ खाना
2. \* दुआ
3. \* ताकत
4. \* रिश्वत



Question Number : 179 Question Id : 54592745226 Question Type : MCQ Option Shuffling : Yes  
Correct Marks : 1 Wrong Marks : 0.25

निम्नलिखित में से कौन सा शब्द स्त्रीलिंग है?

Options :

1. ✓ परीक्षा
2. ✗ बचपन
3. ✗ नारीत्व
4. ✗ दूध

Question Number : 179 Question Id : 54592745226 Question Type : MCQ Option Shuffling : Yes  
Correct Marks : 1 Wrong Marks : 0.25

निम्नलिखित में से कौन सा शब्द स्त्रीलिंग है?

Options :

1. ✓ परीक्षा
2. ✗ बचपन
3. ✗ नारीत्व
4. ✗ दूध

Question Number : 180 Question Id : 54592745227 Question Type : MCQ Option Shuffling : Yes  
Correct Marks : 1 Wrong Marks : 0.25

दिए गए शब्द का बहुवचन ज्ञात कीजिए।

छात्र

Options :

1. ✗ छात्रे
2. ✗ छात्रा
3. ✓ छात्रगण
4. ✗ छात्रजन

Question Number : 180 Question Id : 54592745227 Question Type : MCQ Option Shuffling : Yes  
Correct Marks : 1 Wrong Marks : 0.25

दिए गए शब्द का बहुवचन ज्ञात कीजिए।

छात्र

Options :

1. \* छात्रे
2. \* छात्रा
3. ✓ छात्रगण
4. \* छात्रजन

## General Hindi2

Group Number :	10
Group Id :	5459272240
Group Maximum Duration :	0
Group Minimum Duration :	120
Show Attended Group? :	No
Edit Attended Group? :	No
Break time:	0
Group Marks:	20
Is this Group for Examiner? :	No
Revisit allowed for group Instructions? :	Yes
Maximum Instruction Time:	0
Minimum Instruction Time:	0

## General Hindi2

Section Id :	5459272240
Section Number :	1
Section type :	Online
Mandatory or Optional:	Mandatory
Number of Questions:	16
Number of Questions to be attempted:	16
Section Marks:	20

Sub-Section Number:	1
Sub-Section Id:	5459272687
Question Shuffling Allowed :	Yes

Correct Marks : 1 Wrong Marks : 0.25

निम्नलिखित में से शुद्ध वाक्य का चयन कीजिए।

Options :

1. \* मुझे किताब पढ़ना है।
2. \* सुरेश या मीरा जाएँगे।
3. ✓ क्या आप खाना खा चुके हैं?
4. \* मोहन कुत्ते को डंडे से मारा।

Question Number : 181 Question Id : 54592745228 Question Type : MCQ Option Shuffling : Yes

Correct Marks : 1 Wrong Marks : 0.25

निम्नलिखित में से शुद्ध वाक्य का चयन कीजिए।

Options :

1. \* मुझे किताब पढ़ना है।
2. \* सुरेश या मीरा जाएँगे।
3. ✓ क्या आप खाना खा चुके हैं?
4. \* मोहन कुत्ते को डंडे से मारा।

Question Number : 182 Question Id : 54592745229 Question Type : MCQ Option Shuffling : Yes

Correct Marks : 1 Wrong Marks : 0.25

दिए गए वाक्य का रूप ज्ञात कीजिए।

जो लड़की बीमार है, उसे अस्पताल ले जाओ।

Options :

1. \* सरल
2. ✓ सयुक्त
3. \* मिश्र
4. \* उपवाक्य

Question Number : 182 Question Id : 54592745229 Question Type : MCQ Option Shuffling : Yes

Correct Marks : 1 Wrong Marks : 0.25

दिए गए वाक्य का रूप ज्ञात कीजिए।

जो लड़की बीमार है, उसे अस्पताल ले जाओ।

Options :

1. ✖ सरल
2. ✔ सयुंक्त
3. ✖ मिश्र
4. ✖ उपवाक्य

Question Number : 183 Question Id : 54592745230 Question Type : MCQ Option Shuffling : Yes  
Correct Marks : 1 Wrong Marks : 0.25

निम्नलिखित में से कौन सा वाक्य मिश्र वाक्य है?

Options :

1. ✖ मोनिका नाचती है और उसका पति तबला बजाता है।
2. ✖ शाम को मैं खेलता हूँ और मेरा भाई पढ़ता है।
3. ✔ जब काम पूरा हो गया, तब मैं सो गया।
4. ✖ विद्यार्थी मेहनती है तो अवश्य उत्तीर्ण होगा।

Question Number : 183 Question Id : 54592745230 Question Type : MCQ Option Shuffling : Yes  
Correct Marks : 1 Wrong Marks : 0.25

निम्नलिखित में से कौन सा वाक्य मिश्र वाक्य है?

Options :

1. ✖ मोनिका नाचती है और उसका पति तबला बजाता है।
2. ✖ शाम को मैं खेलता हूँ और मेरा भाई पढ़ता है।
3. ✔ जब काम पूरा हो गया, तब मैं सो गया।
4. ✖ विद्यार्थी मेहनती है तो अवश्य उत्तीर्ण होगा।

Question Number : 184 Question Id : 54592745231 Question Type : MCQ Option Shuffling : Yes  
Correct Marks : 1 Wrong Marks : 0.25

दिए गए वाक्य के वाच्य की पहचान कीजिए।

नेता जी से अन्याय सहा नहीं गया।

Options :

1. \* कर्तवाच्य
2. ✓ भाववाच्य
3. \* कर्मवाच्य
4. \* नित्यवाच्य

Question Number : 184 Question Id : 54592745231 Question Type : MCQ Option Shuffling : Yes  
Correct Marks : 1 Wrong Marks : 0.25

दिए गए वाक्य के वाच्य की पहचान कीजिए।

नेता जी से अन्याय सहा नहीं गया।

Options :

1. \* कर्तवाच्य
2. ✓ भाववाच्य
3. \* कर्मवाच्य
4. \* नित्यवाच्य

Question Number : 185 Question Id : 54592745232 Question Type : MCQ Option Shuffling : Yes  
Correct Marks : 1 Wrong Marks : 0.25

दिए गए वाक्य का पक्ष ज्ञात कीजिए।

गीता कितना अच्छा गा रही है।

Options :

1. \* आरंभद्योतक पक्ष
2. \* पूर्णताद्योतक
3. ✓ सातप्यबोधक
4. \* प्रगतिद्योतक

Question Number : 185 Question Id : 54592745232 Question Type : MCQ Option Shuffling : Yes  
Correct Marks : 1 Wrong Marks : 0.25

दिए गए वाक्य का पक्ष ज्ञात कीजिए।

गीता कितना अच्छा गा रही है।

Options :

1. \* आरंभदयोतक पक्ष
2. \* पूर्णतादयोतक
3. ✓ सातप्यबोधक
4. \* प्रगतिदयोतक

Question Number : 186 Question Id : 54592745233 Question Type : MCQ Option Shuffling : Yes  
Correct Marks : 1 Wrong Marks : 0.25

दिए गए वाक्य की वृत्ति ज्ञात कीजिए।

यह काम तो आज करना ही होगा।

Options :

1. \* बाध्यता सूचक
2. ✓ निश्चियार्थक
3. \* अनिश्चियार्थक
4. \* संकेतार्थक

Question Number : 186 Question Id : 54592745233 Question Type : MCQ Option Shuffling : Yes  
Correct Marks : 1 Wrong Marks : 0.25

दिए गए वाक्य की वृत्ति ज्ञात कीजिए।

यह काम तो आज करना ही होगा।

Options :

1. \* बाध्यता सूचक
2. ✓ निश्चियार्थक

3. \* अनिश्चितार्थक

4. \* संकेतार्थक

Question Number : 187 Question Id : 54592745234 Question Type : MCQ Option Shuffling : Yes

Correct Marks : 1 Wrong Marks : 0.25

दिए गए वाक्य का पुरुष ज्ञात कीजिए।

तुम्हें सदा सत्य बोलना चाहिए।

Options :

1. \* अन्य

2. ✓ मध्यम

3. \* उत्तम

4. \* प्रथम

Question Number : 187 Question Id : 54592745234 Question Type : MCQ Option Shuffling : Yes

Correct Marks : 1 Wrong Marks : 0.25

दिए गए वाक्य का पुरुष ज्ञात कीजिए।

तुम्हें सदा सत्य बोलना चाहिए।

Options :

1. \* अन्य

2. ✓ मध्यम

3. \* उत्तम

4. \* प्रथम

Question Number : 188 Question Id : 54592745235 Question Type : MCQ Option Shuffling : Yes

Correct Marks : 1 Wrong Marks : 0.25

निम्नलिखित प्रश्न में, दिए गए चार विकल्पों में से, उस विकल्प का चयन करें जो दिए गए मुहावरे के अर्थ को सर्वश्रेष्ठ रूप से व्यक्त करता है।

हिरन सी चौकड़ी भरना

Options :

1. \* सुख के दिन सदा नहीं रहते।
2. \* अपराधी स्वयं ही भयभीत रहता है।
3. ✓ बहुत तेज दौड़ना।
4. \* इच्छा होने पर काम बन जाना।

Question Number : 188 Question Id : 54592745235 Question Type : MCQ Option Shuffling : Yes

Correct Marks : 1 Wrong Marks : 0.25

निम्नलिखित प्रश्न में, दिए गए चार विकल्पों में से, उस विकल्प का चयन करें जो दिए गए मुहावरे के अर्थ को सर्वश्रेष्ठ रूप से व्यक्त करता है।

हिरन सी चौकड़ी भरना

Options :

1. \* सुख के दिन सदा नहीं रहते।
2. \* अपराधी स्वयं ही भयभीत रहता है।
3. ✓ बहुत तेज दौड़ना।
4. \* इच्छा होने पर काम बन जाना।

Question Number : 189 Question Id : 54592745236 Question Type : MCQ Option Shuffling : Yes

Correct Marks : 1 Wrong Marks : 0.25

निम्नलिखित प्रश्न में, दिए गए चार विकल्पों में से, उस विकल्प का चयन करें जो दिए गए मुहावरे के अर्थ को सर्वश्रेष्ठ रूप से व्यक्त करता है।

सिर खपाना

Options :

1. ✓ व्यर्थ में माथा खपाना।
2. \* दोषी या अपराधी व्यक्ति को छुपाना।
3. \* आवश्यकता से बहुत कमा।
4. \* दोषी व्यक्ति पर और कई दोष लगाना।



Question Number : 189 Question Id : 54592745236 Question Type : MCQ Option Shuffling : Yes

Correct Marks : 1 Wrong Marks : 0.25

निम्नलिखित प्रश्न में, दिए गए चार विकल्पों में से, उस विकल्प का चयन करें जो दिए गए मुहावरे के अर्थ को सर्वश्रेष्ठ रूप से व्यक्त करता है।

सिर खपाना

Options :

1. ✓ व्यर्थ में माथा खपाना।
2. \* दोषी या अपराधी व्यक्ति को छुपाना।
3. \* आवश्यकता से बहुत कम।
4. \* दोषी व्यक्ति पर और कई दोष लगाना।

Question Number : 190 Question Id : 54592745237 Question Type : MCQ Option Shuffling : Yes

Correct Marks : 1 Wrong Marks : 0.25

निम्नलिखित प्रश्न में, दिए गए चार विकल्पों में से, उस विकल्प का चयन करें जो दिए गए मुहावरे के अर्थ को सर्वश्रेष्ठ रूप से व्यक्त करता है।

छछूँदर के सिर में चमेली का तेल

Options :

1. ✓ अयोग्य व्यक्ति को मूल्यवान वस्तु मिल जाना।
2. \* लालची व्यक्ति को कुछ भी नहीं मिलता।
3. \* दो तरफ के लाभा
4. \* गुण के विरुद्ध नाम होना।

Question Number : 190 Question Id : 54592745237 Question Type : MCQ Option Shuffling : Yes

Correct Marks : 1 Wrong Marks : 0.25

निम्नलिखित प्रश्न में, दिए गए चार विकल्पों में से, उस विकल्प का चयन करें जो दिए गए मुहावरे के अर्थ को सर्वश्रेष्ठ रूप से व्यक्त करता है।

छछूँदर के सिर में चमेली का तेल

Options :

1. ✓ अयोग्य व्यक्ति को मूल्यवान वस्तु मिल जाना।
2. ✗ लालची व्यक्ति को कुछ भी नहीं मिलता।
3. ✗ दो तरफ के लाभ।
4. ✗ गुण के विरुद्ध नाम होना।

Question Number : 191 Question Id : 54592745238 Question Type : MCQ Option Shuffling : Yes

Correct Marks : 1 Wrong Marks : 0.25

निम्नलिखित प्रश्न में, दिए गए चार विकल्पों में से, उस विकल्प का चयन करें जो दिए गए मुहावरे के अर्थ को सर्वश्रेष्ठ रूप से व्यक्त करता है।

शेर को दाँत गिनना

Options :

1. ✗ छोटी सी बात को बढ़ा - चढ़ाकर कहना।
2. ✗ वास्ता पड़ना।
3. ✓ अत्यंत साहस का कार्य करना।
4. ✗ बहुत भूख लगना।

Question Number : 191 Question Id : 54592745238 Question Type : MCQ Option Shuffling : Yes

Correct Marks : 1 Wrong Marks : 0.25

निम्नलिखित प्रश्न में, दिए गए चार विकल्पों में से, उस विकल्प का चयन करें जो दिए गए मुहावरे के अर्थ को सर्वश्रेष्ठ रूप से व्यक्त करता है।

शेर को दाँत गिनना

Options :

1. \* छोटी सी बात को बड़ा - चढ़ाकर कहना।
2. \* वास्ता पड़ना।
3. ✓ अत्यंत साहस का कार्य करना।
4. \* बहुत भूख लगना।

Question Number : 192 Question Id : 54592745239 Question Type : MCQ Option Shuffling : Yes  
Correct Marks : 1 Wrong Marks : 0.25

दिए गए शब्दों के समूह के लिए सही मुहावरे का चयन कीजिए।

मृत्यु की संभावना होना।

Options :

1. ✓ उल्टी साँस चलना
2. \* घर का भेदी लंका ढाए
3. \* गेहूँ के साथ घुन भी पिसता है
4. \* दूर के ढोल सुहावने

Question Number : 192 Question Id : 54592745239 Question Type : MCQ Option Shuffling : Yes  
Correct Marks : 1 Wrong Marks : 0.25

दिए गए शब्दों के समूह के लिए सही मुहावरे का चयन कीजिए।

मृत्यु की संभावना होना।

Options :

1. ✓ उल्टी साँस चलना

2. \* घर का भेदी लंका ढाए
3. \* गेहूँ के साथ घुन भी पिसता है
4. \* दूर के ढोल सुहावने

Question Number : 193 Question Id : 54592745240 Question Type : MCQ Option Shuffling : Yes  
Correct Marks : 1 Wrong Marks : 0.25

दिए गए वाक्य के लिए सही लोकोक्ति का चयन करके रिक्त स्थान की पूर्ति कीजिए।

हमारे नेता जी का तो वही हाल है \_\_\_\_\_।

Options :

1. \* एक पंथ दो काज
2. \* छोटा मुँह बड़ी बात
3. ✓ गंगा गए गंगादास जमुना गए जमुनादास
4. \* खोदा पहाड़ निकली चुहिया

Question Number : 193 Question Id : 54592745240 Question Type : MCQ Option Shuffling : Yes  
Correct Marks : 1 Wrong Marks : 0.25

दिए गए वाक्य के लिए सही लोकोक्ति का चयन करके रिक्त स्थान की पूर्ति कीजिए।

हमारे नेता जी का तो वही हाल है \_\_\_\_\_।

Options :

1. \* एक पंथ दो काज
2. \* छोटा मुँह बड़ी बात
3. ✓ गंगा गए गंगादास जमुना गए जमुनादास
4. \* खोदा पहाड़ निकली चुहिया

Question Number : 194 Question Id : 54592745241 Question Type : MCQ Option Shuffling : Yes  
Correct Marks : 1 Wrong Marks : 0.25

दिए गए वाक्य में किस विराम चिह्न का उपयोग किया जाएगा ज्ञात कीजिए।

तुझसे वकील साहब ने क्या कहा था

Options :

1. \* " "

2. ✓ ?

3. \* !

4. \* |

Question Number : 194 Question Id : 54592745241 Question Type : MCQ Option Shuffling : Yes

Correct Marks : 1 Wrong Marks : 0.25

दिए गए वाक्य में किस विराम चिह्न का उपयोग किया जाएगा ज्ञात कीजिए।

तुझसे वकील साहब ने क्या कहा था

Options :

1. \* " "

2. ✓ ?

3. \* !

4. \* |

Question Number : 195 Question Id : 54592745242 Question Type : MCQ Option Shuffling : Yes

Correct Marks : 1 Wrong Marks : 0.25

निम्नलिखित में से कौन सा योजक चिह्न है?

Options :

1. \* ( ' )

2. \* |

3. ✓ -

4. \* ;

Question Number : 195 Question Id : 54592745242 Question Type : MCQ Option Shuffling : Yes  
Correct Marks : 1 Wrong Marks : 0.25

निम्नलिखित में से कौन सा योजक चिह्न है?

Options :

1. \* ( ' )

2. \* |

3. ✓ -

4. \* ;

Sub-Section Number: 2  
Sub-Section Id: 5459272688  
Question Shuffling Allowed : Yes

Question Id : 54592745243 Question Type : COMPREHENSION Sub Question Shuffling Allowed : Yes Group Comprehension  
Questions : No

Question Numbers : (196 to 200)

Question Label : Comprehension

एक गद्यांश दिया गया है। गद्यांश के आधार पर प्रश्न दिए गए हैं। गद्यांश को ध्यानपूर्वक पढ़ें तथा प्रत्येक प्रश्न में चार विकल्पों में से सही विकल्प चुने।

मन बड़ा चंचल होता है झूले में झूलता रहता है। मन की अस्थिरता हार है और एकाग्र चित्त होकर कार्य करना ही मन की जीत है। मानव संघर्ष करते ही सफलता की सीढ़ियां चढ़ता है संघर्ष से घबराना ही मन की हार है। मन को अपने वश में रखना बड़े-बड़े साधु संतों के वश में नहीं है, पर जो स्थिर चित्त होकर कार्य करता है, वह कठिन से कठिन कार्यों को भी करने में सक्षम होता है। विद्यार्थी मन की एकाग्रता से ही अपनी पढ़ाई में तल्लीन हो सकता है। अर्जुन ने मछली की आंख पर निशाना तभी साध सका जब उसने एकाग्रता से अपने कार्य को किया था। हार और जीत जीवन की अनिवार्य स्थिति है। दोनों का संबंध मनुष्य के मन से है। जहाँ मन की शक्ति सफल होगी वहाँ जीत होगी जहाँ मन की शक्ति हीन होगी वहाँ पराजय होगी। मन की शक्ति, तन को शक्ति प्रदान करती है और असंभव कार्य को भी संभव कर आती है। ध्यान लगाकर भी मन को काबू में किया जा सकता है। मन को जीतने वाला ही कामयाब होता है। भीष्म पितामह की इच्छाशक्ति ने ही उनकी मृत्यु को रोके रखा था। जब मन में संदेह जैसी भावना रहती है, भ्रम पलता है पर निराशा होती है। यही मन की सबसे बड़ी हार होती है, किंतु मन पकड़ा होने पर असंभव भी संभव हो जाता है।

Sub questions

Question Number : 196 Question Id : 54592745244 Question Type : MCQ Option Shuffling : Yes

Correct Marks : 1 Wrong Marks : 0.25

केवल एक तरफ मन लगाने से क्या होता है?

Options :

1. \* मन की हार
2. ✓ मन की जीत
3. \* मन की शक्ति
4. \* इच्छाशक्ति

Question Number : 197 Question Id : 54592745245 Question Type : MCQ Option Shuffling : Yes

Correct Marks : 1 Wrong Marks : 0.25

अर्जुन ने मछली की आँख पर निशाना किससे साधा?

Options :

1. \* मन से

2. \* तन से
3. \* आत्मविश्वास से
4. ✓ एकाग्रता से

Question Number : 198 Question Id : 54592745246 Question Type : MCQ Option Shuffling : Yes  
Correct Marks : 1 Wrong Marks : 0.25

कौन व्यक्ति कामयाब होता है?

Options :

1. \* तन को जीतने वाला
2. ✓ मन को जीतने वाला
3. \* पैसा कमाने वाला
4. \* संघर्ष करने वाला

Question Number : 199 Question Id : 54592745247 Question Type : MCQ Option Shuffling : Yes  
Correct Marks : 1 Wrong Marks : 0.25

हार और जीत का संबंध किससे है?

Options :

1. \* खेल भावना
2. \* संदेह होना
3. ✓ मनुष्य के मन
4. \* मनुष्य के व्यवहार

Question Number : 200 Question Id : 54592745248 Question Type : MCQ Option Shuffling : Yes  
Correct Marks : 1 Wrong Marks : 0.25

उपर्युक्त गद्यांश का शीर्षक क्या है?

Options :

1. \* मन की जीत
2. \* मन की हार
3. \* मनुष्यता
4. ✓ मन के हारे हार मन के जीते जीत

Question Id : 54592745243 Question Type : COMPREHENSION Sub Question Shuffling Allowed : Yes Group Comprehension  
Questions : No

Question Numbers : (196 to 200)



## Question Label : Comprehension

एक गद्यांश दिया गया है। गद्यांश के आधार पर प्रश्न दिए गए हैं। गद्यांश को ध्यानपूर्वक पढ़ें तथा प्रत्येक प्रश्न में चार विकल्पों में से सही विकल्प चुने।

मन बड़ा चंचल होता है झूले में झूलता रहता है। मन की अस्थिरता हार है और एकाग्र चित्त होकर कार्य करना ही मन की जीत है। मानव संघर्ष करते ही सफलता की सीढ़ियां चढ़ता है संघर्ष से घबराना ही मन की हार है। मन को अपने वश में रखना बड़े-बड़े साधु संतों के वश में नहीं है, पर जो स्थिर चित्त होकर कार्य करता है, वह कठिन से कठिन कार्यों को भी करने में सक्षम होता है। विद्यार्थी मन की एकाग्रता से ही अपनी पढ़ाई में तल्लीन हो सकता है। अर्जुन ने मछली की आंख पर निशाना तभी साध सका जब उसने एकाग्रता से अपने कार्य को किया था। हार और जीत जीवन की अनिवार्य स्थिति है। दोनों का संबंध मनुष्य के मन से है। जहाँ मन की शक्ति सफल होगी वहाँ जीत होगी जहाँ मन की शक्ति हीन होगी वहाँ पराजय होगी। मन की शक्ति, तन को शक्ति प्रदान करती हैं और असंभव कार्य को भी संभव कर आती है।

ध्यान लगाकर भी मन को काबू में किया जा सकता है। मन को जीतने वाला ही कामयाब होता है। भीष्म पितामह की इच्छाशक्ति ने ही उनकी मृत्यु को रोके रखा था। जब मन में संदेह जैसी भावना रहती है, भ्रम पलता है पर निराशा होती है। यही मन की सबसे बड़ी हार होती है, किंतु मन पक्का होने पर असंभव भी संभव हो जाता है।

### Sub questions

केवल एक तरफ मन लगाने से क्या होता है?

Options :

1. ✖ मन की हार
2. ✔ मन की जीत
3. ✖ मन की शक्ति
4. ✖ इच्छाशक्ति

Question Number : 197 Question Id : 54592745245 Question Type : MCQ Option Shuffling : Yes  
Correct Marks : 1 Wrong Marks : 0.25

अर्जुन ने मछली की आँख पर निशाना किससे साधा?

Options :

1. ✖ मन से
2. ✖ तन से
3. ✖ आत्मविश्वास से
4. ✔ एकाग्रता से

Question Number : 198 Question Id : 54592745246 Question Type : MCQ Option Shuffling : Yes  
Correct Marks : 1 Wrong Marks : 0.25

कौन व्यक्ति कामयाब होता है?

Options :

1. ✖ तन को जीतने वाला
2. ✔ मन को जीतने वाला
3. ✖ पैसा कमाने वाला
4. ✖ संघर्ष करने वाला

Question Number : 199 Question Id : 54592745247 Question Type : MCQ Option Shuffling : Yes  
Correct Marks : 1 Wrong Marks : 0.25

हार और जीत का संबंध किससे है?

Options :

1. ✖ खेल भावना
2. ✖ संदेह होना
3. ✔ मनुष्य के मन
4. ✖ मनुष्य के व्यवहार

Question Number : 200 Question Id : 54592745248 Question Type : MCQ Option Shuffling : Yes  
Correct Marks : 1 Wrong Marks : 0.25

उपर्युक्त गद्यांश का शीर्षक क्या है?

Options :

1. ✖ मन की जीत
2. ✖ मन की हार
3. ✖ मनुष्यता
4. ✔ मन के हारे हार मन के जीते जीत