

Education Consultant India Ltd.

Notations :

1.Options shown in green color and with ✓ icon are correct.

2.Options shown in red color and with ✖ icon are incorrect.

Question Paper Name:	Grade IV DASS 20th September 2019 Shift 3
Subject Name:	Grade IV DASS
Creation Date:	2019-09-20 19:43:35
Duration:	120
Total Marks:	200
Display Marks:	Yes
Share Answer Key With Delivery Engine:	No
Actual Answer Key:	Yes
Calculator:	None
Magnifying Glass Required?:	No
Ruler Required?:	No
Eraser Required?:	No
Scratch Pad Required?:	No
Rough Sketch/Notepad Required?:	No
Protractor Required?:	No
Show Watermark on Console?:	Yes
Highlighter:	No
Auto Save on Console?:	No

Mental Ability1

Group Number :	1
Group Id :	5459272011
Group Maximum Duration :	0
Group Minimum Duration :	0
Show Attended Group? :	No
Edit Attended Group? :	No
Break time:	0
Group Marks:	20
Is this Group for Examiner?:	No
Revisit allowed for group Instructions? :	Yes
Maximum Instruction Time:	0
Minimum Instruction Time:	0

Mental Ability1

Section Id :	5459272011
Section Number :	1

Section type :	Online
Mandatory or Optional:	Mandatory
Number of Questions:	20
Number of Questions to be attempted:	20
Section Marks:	20

Sub-Section Number:	1
Sub-Section Id:	5459272413
Question Shuffling Allowed :	Yes

Question Number : 1 Question Id : 54592740603 Question Type : MCQ Option Shuffling : Yes
Correct Marks : 1 Wrong Marks : 0.25

Find the missing term in the following series:

D16F, C9E, B4D, _____

Options :

1. ✘ A3C
2. ✔ A1C
3. ✘ B5C
4. ✘ B1D

Question Number : 1 Question Id : 54592740603 Question Type : MCQ Option Shuffling : Yes
Correct Marks : 1 Wrong Marks : 0.25

निम्नलिखित अक्षर श्रृंखला में लुप्त पद ज्ञात करें:

D16F, C9E, B4D, _____

Options :

1. ✘ A3C
2. ✔ A1C
3. ✘ B5C
4. ✘ B1D

Question Number : 2 Question Id : 54592740604 Question Type : MCQ Option Shuffling : Yes
Correct Marks : 1 Wrong Marks : 0.25

Find the wrong term in the following series:

AppLE, lEmOn, tOmAtO, pIneAppLE, OrAngE

Options :

1. ✖ OrAngE
2. ✔ pIneAppLE
3. ✖ tOmAtO
4. ✖ lEmOn

Question Number : 2 Question Id : 54592740604 Question Type : MCQ Option Shuffling : Yes

Correct Marks : 1 Wrong Marks : 0.25

निम्नलिखित श्रृंखला में गलत पद ज्ञात करें:

AppLE, lEmOn, tOmAtO, pIneAppLE, OrAngE

Options :

1. ✖ OrAngE
2. ✔ pIneAppLE
3. ✖ tOmAtO
4. ✖ lEmOn

Question Number : 3 Question Id : 54592740605 Question Type : MCQ Option Shuffling : Yes

Correct Marks : 1 Wrong Marks : 0.25

Arrange the given words in the sequence in which they occur in the dictionary.

1. Transition
2. Traumatism
3. Tragically
4. Transpolar
5. Transeptal

Options :

1. ✖ 3,5,4,1,2

2. ✔ 3,5,1,4,2

3. ✖ 5,3,1,4,2

4. ✖ 5,3,2,1,4

Question Number : 3 Question Id : 54592740605 Question Type : MCQ Option Shuffling : Yes

Correct Marks : 1 Wrong Marks : 0.25

निम्नलिखित शब्दों को उस क्रम में व्यवस्थित करें जैसे वे शब्दकोश में होते हैं।

1. Transition

2. Traumatism

3. Tragically

4. Transpolar

5. Transeptal

Options :

1. ✖ 3,5,4,1,2

2. ✔ 3,5,1,4,2

3. ✖ 5,3,1,4,2

4. ✖ 5,3,2,1,4

Question Number : 4 Question Id : 54592740606 Question Type : MCQ Option Shuffling : Yes

Correct Marks : 1 Wrong Marks : 0.25

Out of the given options, three are similar in a certain manner. However, one option is NOT like the other three. Select the option which is different from the rest.

Options :

1. ✖ CFZ

2. ✖ RUO

3. ✔ KOF

4. ✖ SVP

Question Number : 4 Question Id : 54592740606 Question Type : MCQ Option Shuffling : Yes
Correct Marks : 1 Wrong Marks : 0.25

दिए गए विकल्पों में से, तीन एक निश्चित तरीके से समान हैं।
हालाँकि, एक विकल्प अन्य तीन की तरह नहीं है। उस विकल्प का
चयन करें जो बाकी से अलग है।

Options :

1. ✖ CFZ

2. ✖ RUO

3. ✔ KOF

4. ✖ SVP

Question Number : 5 Question Id : 54592740607 Question Type : MCQ Option Shuffling : Yes
Correct Marks : 1 Wrong Marks : 0.25

In the given options 3 pair of words are similarly related and
one pair is differently related. Find the pair which is
differently related.

Options :

1. ✖ Cow : Shed

2. ✖ Guns : Armoury

3. ✔ Car : Road

4. ✖ Grain : Granary

Question Number : 5 Question Id : 54592740607 Question Type : MCQ Option Shuffling : Yes
Correct Marks : 1 Wrong Marks : 0.25

दिए गए विकल्पों में 3 शब्दों के जोड़े एकसमान संबंधित हैं और एक जोड़ी अलग तरह से संबंधित है। उस जोड़ी को ज्ञात करें जो अलग तरह से संबंधित है।

Options :

1. * गाय : गोशाला
2. * बंदूकें : शस्त्रागार
3. ✓ कार: सड़क
4. * अनाज : धान्यागार

Question Number : 6 Question Id : 54592740608 Question Type : MCQ Option Shuffling : Yes
Correct Marks : 1 Wrong Marks : 0.25

In the given options 3 pair of letters are similarly related and one pair is differently related. Find the pair which is differently related.

Options :

1. * MVD : OYH
2. * HBP : JET
3. * KFL : MIP
4. ✓ CNR : ETZ

Question Number : 6 Question Id : 54592740608 Question Type : MCQ Option Shuffling : Yes
Correct Marks : 1 Wrong Marks : 0.25

दिए गए विकल्पों में 3 अक्षरों के जोड़े एकसमान संबंधित हैं और एक जोड़ी अलग तरह से संबंधित है। उस जोड़ी को ज्ञात करें जो अलग तरह से संबंधित है।

Options :

1. * MVD : OYH
2. * HBP : JET

3. ✖ KFL : MIP

4. ✔ CNR : ETZ

Question Number : 7 Question Id : 54592740609 Question Type : MCQ Option Shuffling : Yes

Correct Marks : 1 Wrong Marks : 0.25

Select the option that is related to the third term on the same basis as the second term is related to the first term.

KRW : ELQ :: MWI : ?

Options :

1. ✔ GQC

2. ✖ ERD

3. ✖ HSC

4. ✖ EQB

Question Number : 7 Question Id : 54592740609 Question Type : MCQ Option Shuffling : Yes

Correct Marks : 1 Wrong Marks : 0.25

उस विकल्प का चयन करें जो तीसरे पद से उसी प्रकार से संबंधित है जिस प्रकार से पहला पद दूसरे पद से संबंधित है।

KRW : ELQ :: MWI : ?

Options :

1. ✔ GQC

2. ✖ ERD

3. ✖ HSC

4. ✖ EQB

Question Number : 8 Question Id : 54592740610 Question Type : MCQ Option Shuffling : Yes

Correct Marks : 1 Wrong Marks : 0.25

Select the pair that is related on the same basis to the pair given in the question.

KQI : NTL :: ?

Options :

1. ✖ MDY : PHB
2. ✖ HCP : MGS
3. ✔ CHM : FKP
4. ✖ KPX : NTA

Question Number : 8 Question Id : 54592740610 Question Type : MCQ Option Shuffling : Yes
Correct Marks : 1 Wrong Marks : 0.25

उस जोड़ी का चयन करें जो उसी आधार पर संबंधित हों, जिस आधार पर सवाल में दी गई जोड़ी संबंधित हैं।

KQI : NTL :: ?

Options :

1. ✖ MDY : PHB
2. ✖ HCP : MGS
3. ✔ CHM : FKP
4. ✖ KPX : NTA

Question Number : 9 Question Id : 54592740611 Question Type : MCQ Option Shuffling : Yes
Correct Marks : 1 Wrong Marks : 0.25

Select the group of letters that is related on the same basis to the group of letters given in the question.

LSZ : IPW : FMT :: ?

Options :

1. ✖ DNX : AKU : SMD

2. ✖ DNX : MKL : SKD

3. ✖ SMD : DNF : XBA

4. ✔ DNX : AKU : XHR

Question Number : 9 Question Id : 54592740611 Question Type : MCQ Option Shuffling : Yes
Correct Marks : 1 Wrong Marks : 0.25

उस अक्षरों के समूह का चयन करें जो उसी आधार पर संबंधित हों, जिस आधार पर सवाल में दिए गए अक्षरों के समूह संबंधित हैं।

LSZ : IPW : FMT :: ?

Options :

1. ✖ DNX : AKU : SMD

2. ✖ DNX : MKL : SKD

3. ✖ SMD : DNF : XBA

4. ✔ DNX : AKU : XHR

Question Number : 10 Question Id : 54592740612 Question Type : MCQ Option Shuffling : Yes
Correct Marks : 1 Wrong Marks : 0.25

If animals which can fly in the sky are called frogs, animals which can crawl are called lions, animals which can walk are called snakes and animals which live in water are called birds, then what will be gorilla called?

Options :

1. ✖ lions

2. ✖ frogs

3. ✔ snakes

4. ✖ birds

Question Number : 10 Question Id : 54592740612 Question Type : MCQ Option Shuffling : Yes
Correct Marks : 1 Wrong Marks : 0.25

यदि आकाश में उड़ने वाले जानवरों को मेंढक कहा जाए, रेंगने वाले जानवरों को शेर कहा जाए, चलने वाले जानवरों को सांप कहा जाए और पानी में रहने वाले जानवरों को पक्षी कहा जाए, तो गोरिल्ला किसे कहा जाएगा?

Options :

1. * शेर
2. * मेंढक
3. ✓ सांप
4. * पक्षी

Question Number : 11 Question Id : 54592740613 Question Type : MCQ Option Shuffling : Yes
Correct Marks : 1 Wrong Marks : 0.25

In a certain code language,
'min tin pin lin' means 'there is heavy traffic'
'lin zin tin fin' means 'it is traffic time'
'kin tin zin sin rin' means 'it is for one hour'
What is the code for 'time' ?

Options :

1. * lin
2. ✓ fin
3. * zin
4. * tin

Question Number : 11 Question Id : 54592740613 Question Type : MCQ Option Shuffling : Yes
Correct Marks : 1 Wrong Marks : 0.25

एक निश्चित कोड भाषा में,

'min tin pin lin' का अर्थ है 'there is heavy traffic'

'lin zin tin fin' का अर्थ है 'it is traffic time'

'kin tin zin sin rin' का अर्थ है 'it is for one hour'

'time' का कोड क्या है?

Options :

1. ✖ lin

2. ✔ fin

3. ✖ zin

4. ✖ tin

Question Number : 12 Question Id : 54592740614 Question Type : MCQ Option Shuffling : Yes

Correct Marks : 1 Wrong Marks : 0.25

In a certain code language SLACK is coded as QNYEI, then what is the code for RAINBOW?

Options :

1. ✖ PDGPXQV

2. ✖ PCGPMNU

3. ✔ PCGPZQU

4. ✖ PDGPKMO

Question Number : 12 Question Id : 54592740614 Question Type : MCQ Option Shuffling : Yes

Correct Marks : 1 Wrong Marks : 0.25

एक निश्चित कोड भाषा में, SLACK को QNYEI के रूप में कोडित किया जाता है, तो RAINBOW का कोड क्या है?

Options :

1. ✖ PDGPXQV

2. ✖ PCGPMNU

3. ✓ PCGPZQU

4. ✖ PDGPKMO

Question Number : 13 Question Id : 54592740615 Question Type : MCQ Option Shuffling : Yes

Correct Marks : 1 Wrong Marks : 0.25

Six friends — Hina, Prem, Dhruv, Luke, Madhavan and Wasim are sitting around a circular table such that each person is sitting exactly opposite another person in the group, thus forming 3 pairs of friends sitting exactly opposite each other. Hina is sitting to Wasim's immediate right. Madhavan is sitting to Luke's immediate left. Dhruv and Wasim do not sit next to each other. Luke and Wasim do not sit next to each other. There is exactly one person sitting between Luke and Hina.

Who is sitting exactly opposite Luke?

Options :

1. ✓ Wasim

2. ✖ Prem

3. ✖ Dhruv

4. ✖ Hina

Question Number : 13 Question Id : 54592740615 Question Type : MCQ Option Shuffling : Yes

Correct Marks : 1 Wrong Marks : 0.25

छह दोस्त - हिना, प्रेम, ध्रुव, ल्यूक, माधवन और वसीम एक गोलाकार टेबल के चारों ओर बैठे हैं, जैसे कि प्रत्येक व्यक्ति समूह में किसी अन्य व्यक्ति के बिल्कुल विपरीत बैठा है, इस प्रकार 3 जोड़े दोस्तों के एक दूसरे के बिल्कुल विपरीत बैठे हैं। हिना, वसीम के ठीक दाएं ओर बैठी हैं। माधवन, ल्यूक के ठीक बाएं ओर बैठे हैं। ध्रुव और वसीम एक दूसरे के बगल में नहीं बैठे हैं। ल्यूक और वसीम एक दूसरे के बगल में नहीं बैठे हैं। ल्यूक और हिना के बीच ठीक एक व्यक्ति बैठा है। ल्यूक के ठीक सामने कौन बैठा है?

Options :

1. ✓ वसीम
2. ✗ प्रेम
3. ✗ ध्रुव
4. ✗ हिना

Question Number : 14 Question Id : 54592740616 Question Type : MCQ Option Shuffling : Yes
Correct Marks : 1 Wrong Marks : 0.25

In the given options 3 pair of words are similarly related and one pair is differently related. Find the pair which is differently related.

Options :

1. ✗ Goat - Kid
2. ✗ Kangaroo - Joey
3. ✓ Rabbit - Puppy
4. ✗ Wolf - Cub

Question Number : 14 Question Id : 54592740616 Question Type : MCQ Option Shuffling : Yes
Correct Marks : 1 Wrong Marks : 0.25

दिए गए विकल्पों में शब्दों की 3 जोड़ी समान रूप से सम्बंधित हैं, और एक जोड़ी अलग तरह से संबंधित है। उस जोड़ी को ज्ञात करें जो अलग तरह से संबंधित है।

Options :

1. * बकरी- बच्चा
2. * कंगारू - जोएय
3. ✓ खरगोश - पिल्ला
4. * भेड़िया - पशुशावक

Question Number : 15 Question Id : 54592740617 Question Type : MCQ Option Shuffling : Yes

Correct Marks : 1 Wrong Marks : 0.25

Select the option that arranges the words given below in the most appropriate and meaningful sequence.

1. Branch
2. Forest
3. Hatchling
4. Tree
5. Nest

Options :

1. * 2-1-4-3-5
2. * 1-3-4-2-5
3. * 1-4-2-5-3
4. ✓ 2-4-1-5-3

Question Number : 15 Question Id : 54592740617 Question Type : MCQ Option Shuffling : Yes

Correct Marks : 1 Wrong Marks : 0.25

नीचे दिए गए शब्दों को सबसे उपयुक्त और सार्थक अनुक्रम में व्यवस्थित करने वाले विकल्प का चयन करें।

1. Branch
2. Forest
3. Hatchling
4. Tree
5. Nest

Options :

1. ✖ 2-1-4-3-5
2. ✖ 1-3-4-2-5
3. ✖ 1-4-2-5-3
4. ✔ 2-4-1-5-3

Question Number : 16 Question Id : 54592740618 Question Type : MCQ Option Shuffling : Yes
Correct Marks : 1 Wrong Marks : 0.25

Analyse the given information and answer the question that follows.

The criteria for selecting a Software Developer have been given as under:

The candidate must:

1. Be a graduate in Science or Engineering with at least 60% marks.
2. Have more than 1 year of industry experience in software development
3. Be between 18 and 27 years old on the date of application

The following exceptions apply:

- A. If a candidate meets all other criteria except 2 above, the candidate will be referred to the Programme Manager.
- B. A candidate whose age is more than 27 years but less than 32 years will be referred to the Recruiting Manager.

Kevin D'Souza is an engineering graduate with 61% marks. He has been working as a software developer for the last 5 years. He is currently pursuing an MBA from an Open University, and he is 29 years old.

What decision should be taken about this candidate?

Options :

1. ✖ The candidate should be selected.
2. ✖ The candidate should be rejected.
3. ✖ The candidate should be referred to the Programme Manager.
4. ✔ The candidate should be referred to the Recruiting Manager.

दी गई जानकारी का विश्लेषण करें और उस प्रश्न का उत्तर दें जो निम्न प्रकार है।

एक सॉफ्टवेयर डेवलपर के चयन के मानदंड निम्नानुसार दिए गए हैं:

उम्मीदवार को चाहिए:

1. कम से कम 60% अंकों के साथ विज्ञान या इंजीनियरिंग में स्नातक हो।
2. सॉफ्टवेयर डेवलपमेंट में उद्योग का 1 वर्ष से अधिक का अनुभव हो।
3. आवेदन की तिथि 18 से 27 वर्ष के बीच हो।

निम्नलिखित अपवाद लागू होते हैं:

A. यदि कोई उम्मीदवार उपरोक्त 2 को छोड़कर अन्य सभी मानदंडों को पूरा करता है, तो उम्मीदवार को प्रोग्राम मैनेजर के पास भेजा जाएगा।

B. एक उम्मीदवार जिसकी आयु 27 वर्ष से अधिक है, लेकिन 32 वर्ष से कम है, को भर्ती प्रबंधक के पास भेजा जाएगा।

केविन डिसूजा 61% अंकों के साथ इंजीनियरिंग स्नातक हैं। वह पिछले 5 वर्षों से एक सॉफ्टवेयर डेवलपर के रूप में काम कर रहा है। वह वर्तमान में एक मुक्त विश्वविद्यालय से MBA कर रहा है, और वह 29 वर्ष का है।

इस उम्मीदवार के बारे में क्या निर्णय लिया जाना चाहिए?

Options :

1. * उम्मीदवार का चयन होना चाहिए।

2. * उम्मीदवार को खारिज कर दिया जाना चाहिए।
3. * उम्मीदवार को प्रोग्राम मैनेजर के पास भेजा जाना चाहिए।
4. ✓ उम्मीदवार को भर्ती प्रबंधक के पास भेजा जाना चाहिए।

Question Number : 17 Question Id : 54592740619 Question Type : MCQ Option Shuffling : Yes
Correct Marks : 1 Wrong Marks : 0.25

Lucy is Roy's sister. Roy is Ben's father. Martha is Lucy's mother. How is Martha related to Ben?

Options :

1. ✓ Grandmother
2. * Mother
3. * Aunt
4. * Sister or cousin

Question Number : 17 Question Id : 54592740619 Question Type : MCQ Option Shuffling : Yes
Correct Marks : 1 Wrong Marks : 0.25

लुसी, रॉय की बहन है। रॉय, बेन के पिता हैं। मार्था, लुसी की माता है।
मार्था, बेन से कैसे संबंधित है?

Options :

1. ✓ दादी/नानी
2. * माता
3. * चाची
4. * बहन या चचेरी बहन

Question Number : 18 Question Id : 54592740620 Question Type : MCQ Option Shuffling : Yes
Correct Marks : 1 Wrong Marks : 0.25

In this question, a statement has been given, followed by two assumptions numbered I and II. Analyse the two assumptions together and determine which of them is/are implicit in the statement.

Statements:

Normally, Mr. Ghosh travels cheap by opting for a train journey but he took a flight this time as it was an emergency.

Assumptions:

- I. Travelling by train is more expensive than travelling by air.
- II. In case of an emergency, one should not think of the financial cost but make arrangements to reach the destination by the fastest means possible.

Options :

- 1. ✖ Only assumption I is implicit.
- 2. ✔ Only assumption II is implicit.
- 3. ✖ Neither assumption I nor assumption II is implicit.
- 4. ✖ Both the assumptions are implicit.

Question Number : 18 Question Id : 54592740620 Question Type : MCQ Option Shuffling : Yes

Correct Marks : 1 Wrong Marks : 0.25

इस प्रश्न में, एक कथन दिया गया है, जिसके बाद I और II की दो धारणाएँ हैं। एक साथ दोनों धारणाओं का विश्लेषण करें और निर्धारित करें कि उनमें से कौन सा/से कथन में निहित है।

कथन:

आम तौर पर, श्री घोष एक रेल यात्रा का चयन करके सस्ते में यात्रा करते हैं लेकिन उन्होंने इस बार विमान का चयन किया क्योंकि यह एक आपातकालीन स्थिति थी।

धारणाएँ:

- I. रेलगाड़ी से यात्रा करना हवाई यात्रा से ज्यादा महंगा है।
- II. किसी आपातकालीन स्थिति में, किसी को वित्तीय लागत के बारे में नहीं सोचना चाहिए, लेकिन सबसे तेज़ तरीकों से गंतव्य तक पहुंचने की व्यवस्था करनी चाहिए।

Options :

1. ✖ केवल धारणा I निहित है।
2. ✔ केवल धारणा II निहित है।
3. ✖ न तो धारणा I और न ही धारणा II निहित है।
4. ✖ दोनों धारणाएं निहित हैं।

Question Number : 19 Question Id : 54592740621 Question Type : MCQ Option Shuffling : Yes
Correct Marks : 1 Wrong Marks : 0.25

In this question, two statements have been given labelled as Assertion (A) and Reason (R). Analyse both the statements and determine whether they are correct and whether the reason correctly explains the assertion.

Assertion (A): Boiling a potato on a mountain (at a higher altitude) takes much less time than it would at sea level.

Reason (R): A pressure cooker can be used for cooking to compensate for lower atmospheric pressure at high elevations.

Options :

1. * Both A and R are true and R is the correct explanation of A.
2. * Both A and R are true but R is not the correct explanation of A.
3. * A is true but R is false.
4. ✓ A is false but R is true.

Question Number : 19 Question Id : 54592740621 Question Type : MCQ Option Shuffling : Yes

Correct Marks : 1 Wrong Marks : 0.25

इस प्रश्न में, दो कथनों को अभिकथन (A) और कारण (R) के रूप में लेबल दिया गया है। दोनों कथनों का विश्लेषण करें और निर्धारित करें कि क्या वे सही हैं और क्या कारण से सही है?

अभिकथन (A): एक पहाड़ पर (अधिक ऊंचाई पर) आलू उबालने में समुद्र तल से बहुत कम समय लगता है।

कारण (R): उच्च ऊंचाई पर कम वायुमंडलीय दबाव की भरपाई के लिए खाना पकाने के लिए एक प्रेशर कुकर का उपयोग किया जा सकता है।

Options :

1. * A और R दोनों सत्य हैं और R, A की सत्य व्याख्या है।

2. * A और R दोनों सत्य हैं लेकिन R, A की सत्य व्याख्या नहीं है।

3. * A सत्य है लेकिन R असत्य है।

4. ✓ A असत्य है लेकिन R सत्य है।

Question Number : 20 Question Id : 54592740622 Question Type : MCQ Option Shuffling : Yes

Correct Marks : 1 Wrong Marks : 0.25

Complete the following number series:

120, 211, 338, 507, _____

Options :

1. * 686

2. * 850

3. * 729

4. ✓ 724

Question Number : 20 Question Id : 54592740622 Question Type : MCQ Option Shuffling : Yes

Correct Marks : 1 Wrong Marks : 0.25

निम्नलिखित संख्या श्रृंखला को पूरा करें:

120, 211, 338, 507, _____

Options :

1. * 686

2. * 850

3. * 729

4. ✓ 724

Mental Ability2

Group Number :

2

Group Id :

5459272012

Group Maximum Duration :	0
Group Minimum Duration :	0
Show Attended Group? :	No
Edit Attended Group? :	No
Break time:	0
Group Marks:	20
Is this Group for Examiner?:	No
Revisit allowed for group Instructions? :	Yes
Maximum Instruction Time:	0
Minimum Instruction Time:	0

Mental Ability2

Section Id :	5459272012
Section Number :	1
Section type :	Online
Mandatory or Optional:	Mandatory
Number of Questions:	20
Number of Questions to be attempted:	20
Section Marks:	20

Sub-Section Number:	1
Sub-Section Id:	5459272414
Question Shuffling Allowed :	Yes

Question Number : 21 Question Id : 54592740623 Question Type : MCQ Option Shuffling : Yes
Correct Marks : 1 Wrong Marks : 0.25

Find the wrong number in the following number series:

729, 1215, 2025, 3375, 5425

Options :

1. ✘ 1215

2. ✘ 2025

3. ✘ 3375

4. ✔ 5425

Question Number : 21 Question Id : 54592740623 Question Type : MCQ Option Shuffling : Yes
Correct Marks : 1 Wrong Marks : 0.25

निम्नलिखित संख्या श्रृंखला में से गलत संख्या ज्ञात करें:

729, 1215, 2025, 3375, 5425

Options :

1. ✖ 1215
2. ✖ 2025
3. ✖ 3375
4. ✔ 5425

Question Number : 22 Question Id : 54592740624 Question Type : MCQ Option Shuffling : Yes
Correct Marks : 1 Wrong Marks : 0.25

Select the option that is related to the third number on the same basis as the second number is related to the first number.

1.32 : 0.0132 :: 1.02 : ?

Options :

1. ✖ 0.102
2. ✖ 0.00102
3. ✖ 1.012
4. ✔ 0.0102

Question Number : 22 Question Id : 54592740624 Question Type : MCQ Option Shuffling : Yes
Correct Marks : 1 Wrong Marks : 0.25

उस विकल्प का चयन करें जो तीसरी संख्या से उसी प्रकार से संबंधित है जिस प्रकार से पहली संख्या दूसरी संख्या से संबंधित है।

1.32 : 0.0132 :: 1.02 : ?

Options :

1. ✖ 0.102
2. ✖ 0.00102
3. ✖ 1.012
4. ✔ 0.0102

Question Number : 23 Question Id : 54592740625 Question Type : MCQ Option Shuffling : Yes
Correct Marks : 1 Wrong Marks : 0.25

Find the missing number in the following number series.

215, _____, 289, 321, 363, 395

Options :

1. ✖ 258
2. ✖ 232
3. ✔ 247
4. ✖ 261

Question Number : 23 Question Id : 54592740625 Question Type : MCQ Option Shuffling : Yes
Correct Marks : 1 Wrong Marks : 0.25

निम्नलिखित संख्या श्रृंखला में लुप्त संख्या को ज्ञात करें।

215, _____, 289, 321, 363, 395

Options :

1. ✖ 258
2. ✖ 232
3. ✔ 247
4. ✖ 261

Question Number : 24 Question Id : 54592740626 Question Type : MCQ Option Shuffling : Yes
Correct Marks : 1 Wrong Marks : 0.25

Find the missing number in the following number series.

132, 156, ____, 210, 240, 272

Options :

1. ✖ 176

2. ✔ 182

3. ✖ 191

4. ✖ 184

Question Number : 24 Question Id : 54592740626 Question Type : MCQ Option Shuffling : Yes

Correct Marks : 1 Wrong Marks : 0.25

निम्नलिखित संख्या श्रृंखला में लुप्त संख्या को ज्ञात करें।

132, 156, ____, 210, 240, 272

Options :

1. ✖ 176

2. ✔ 182

3. ✖ 191

4. ✖ 184

Question Number : 25 Question Id : 54592740627 Question Type : MCQ Option Shuffling : Yes

Correct Marks : 1 Wrong Marks : 0.25

Find the missing number in the following number series.

285, 475, 665, ____, 1045

Options :

1. ✖ 745

2. ✖ 845

3. ✔ 855

4. ✖ 795

Question Number : 25 Question Id : 54592740627 Question Type : MCQ Option Shuffling : Yes
Correct Marks : 1 Wrong Marks : 0.25

निम्नलिखित संख्या श्रृंखला में लुप्त संख्या को ज्ञात करें।

285, 475, 665, _____, 1045

Options :

1. ✖ 745

2. ✖ 845

3. ✔ 855

4. ✖ 795

Question Number : 26 Question Id : 54592740628 Question Type : MCQ Option Shuffling : Yes
Correct Marks : 1 Wrong Marks : 0.25

If $x - y < z - w$, then which of the following is true?

Options :

1. ✖ $x - w > y - z$

2. ✖ $x + w > y - z$

3. ✔ $x + w < y + z$

4. ✖ $z - x < y - w$

Question Number : 26 Question Id : 54592740628 Question Type : MCQ Option Shuffling : Yes
Correct Marks : 1 Wrong Marks : 0.25

यदि $x - y < z - w$ है, तो निम्नलिखित में से कौन सा सत्य है?

Options :

1. ✖ $x - w > y - z$

2. ✖ $x + w > y - z$

3. ✔ $x + w < y + z$

4. ✖ $z - x < y - w$

Question Number : 27 Question Id : 54592740629 Question Type : MCQ Option Shuffling : Yes

Correct Marks : 1 Wrong Marks : 0.25

Rakesh built a fence around his square plot. He used 32 fence poles on each side of the square. How many poles did he need altogether?

Options :

1. ✖ 128

2. ✖ 120

3. ✔ 124

4. ✖ 96

Question Number : 27 Question Id : 54592740629 Question Type : MCQ Option Shuffling : Yes

Correct Marks : 1 Wrong Marks : 0.25

राकेश ने अपने वर्गाकार भूखंड के चारों ओर एक बाड़ बनाया। उसने वर्ग के प्रत्येक तरफ 32 बाड़ के खंबो का इस्तेमाल किया। उसे कुल कितने खंबो की आवश्यकता थी?

Options :

1. ✖ 128

2. ✖ 120

3. ✔ 124

4. ✖ 96

Question Number : 28 Question Id : 54592740630 Question Type : MCQ Option Shuffling : Yes

Correct Marks : 1 Wrong Marks : 0.25

The average age of a group of 8 people is 24 years. If one member from the group is excluded, the average becomes 23 years. What is the age of the member that was excluded?

Options :

1. ✖ 23 years

2. ✖ 32 years

3. ✓ 31 years

4. ✗ 28 years

Question Number : 28 Question Id : 54592740630 Question Type : MCQ Option Shuffling : Yes

Correct Marks : 1 Wrong Marks : 0.25

8 लोगों के समूह की औसत आयु 24 वर्ष है। यदि समूह से एक सदस्य को बाहर किया जाता है, औसत आयु 23 वर्ष हो जाती है। उस सदस्य की आयु क्या है जिसे बाहर किया गया था?

Options :

1. ✗ 23 वर्ष

2. ✗ 32 वर्ष

3. ✓ 31 वर्ष

4. ✗ 28 वर्ष

Question Number : 29 Question Id : 54592740631 Question Type : MCQ Option Shuffling : Yes

Correct Marks : 1 Wrong Marks : 0.25

Which two numbers should be interchanged to make the below equation mathematically correct?

$$7 \times 26 + 32 \div 2 - 15 = 222$$

Options :

1. ✓ 26, 32

2. ✗ 7, 15

3. ✗ 26, 15

4. ✗ 7, 2

Question Number : 29 Question Id : 54592740631 Question Type : MCQ Option Shuffling : Yes

Correct Marks : 1 Wrong Marks : 0.25

नीचे दिए गए समीकरण को गणितीय रूप से सही बनाने के लिए किन दो संख्याओं को परस्पर स्थानांतरित किया जाना चाहिए?

$$7 \times 26 + 32 \div 2 - 15 = 222$$

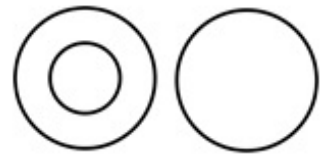
Options :

1. ✓ 26, 32
2. ✗ 7, 15
3. ✗ 26, 15
4. ✗ 7, 2

Question Number : 30 Question Id : 54592740632 Question Type : MCQ Option Shuffling : Yes

Correct Marks : 1 Wrong Marks : 0.25

The Venn diagram given in the question represents the relationship between the items given in which of the following options?



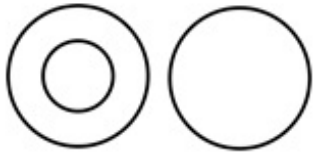
Options :

1. ✗ cows, buffaloes and cattle
2. ✗ tables, sofa and furniture
3. ✗ games, cricket and tennis
4. ✓ Saturn, planets and stars

Question Number : 30 Question Id : 54592740632 Question Type : MCQ Option Shuffling : Yes

Correct Marks : 1 Wrong Marks : 0.25

प्रश्न में दिया गया वेन आरेख निम्नलिखित में से किस विकल्प में दिए गए वस्तुओं के बीच के संबंध को दर्शाता है?



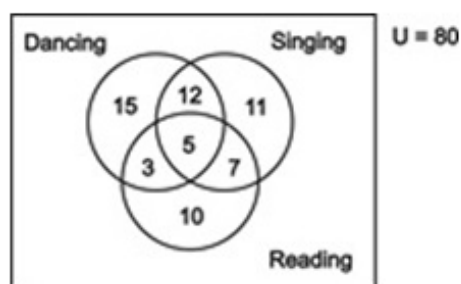
Options :

1. ✖ गाय, भैंस और मवेशी
2. ✖ मेजें, सोफा और फर्नीचर
3. ✖ खेल, क्रिकेट और टेनिस
4. ✔ शनि, ग्रह और तारे

Question Number : 31 Question Id : 54592740633 Question Type : MCQ Option Shuffling : Yes

Correct Marks : 1 Wrong Marks : 0.25

I asked the members of my extended family what were their hobbies. The results of this finding are shown in the following Venn diagram. How many of my family members have singing or dancing as their hobbies but NOT reading?



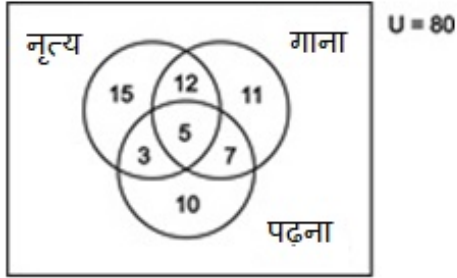
Options :

1. ✖ 12
2. ✖ 27
3. ✔ 38
4. ✖ 44

Question Number : 31 Question Id : 54592740633 Question Type : MCQ Option Shuffling : Yes

Correct Marks : 1 Wrong Marks : 0.25

मैंने अपने विस्तारित परिवार के सदस्यों से पूछा कि उनके शौक क्या हैं । इस खोज के परिणाम निम्नलिखित वेन आरेख में दिखाए गए हैं। मेरे परिवार के कितने सदस्य गायन या नृत्य के शौकीन हैं लेकिन पढ़ने के नहीं हैं?



Options :

1. ✖ 12
2. ✖ 27
3. ✔ 38
4. ✖ 44

Question Number : 32 Question Id : 54592740634 Question Type : MCQ Option Shuffling : Yes

Correct Marks : 1 Wrong Marks : 0.25

In this question, two statements are given followed by an inference. Analyse the statements and the inference and determine whether the given inference can be drawn from the statements.

Statements:

- I. Every dog eats meat.
- II. Tommy eats meat.

Inference: Tommy is a dog.

Options :

1. * The given inference is definitely true.
2. * The given inference is definitely false.
3. ✓ The given inference could be true or false.
4. * This inference cannot be drawn from the given statements.

Question Number : 32 Question Id : 54592740634 Question Type : MCQ Option Shuffling : Yes
Correct Marks : 1 Wrong Marks : 0.25

इस प्रश्न में, दो कथनों के बाद एक अनुमान लगाया जाता है। कथनों और अनुमानों का विश्लेषण करें और निर्धारित करें कि दिए गए अनुमानों को कथनों से निकाला जा सकता है या नहीं।

कथन:

- I. हर कुत्ता मांस खाता है।
- II. टॉमी मांस खाता।

अनुमान: टॉमी एक कुत्ता है।

Options :

1. * दिया गया अनुमान सत्य है।
2. * दिया गया अनुमान निश्चित रूप से असत्य है।
3. ✓ दिया गया अनुमान सत्य या असत्य हो सकता है।
4. * यह अनुमान दिए गए कथन में लागू नहीं होता

Question Number : 33 Question Id : 54592740635 Question Type : MCQ Option Shuffling : Yes
Correct Marks : 1 Wrong Marks : 0.25

Nanhe went fishing in a lake. He started rowing straight towards East. After going for 2 km straight, he turned right and rowed for 3 km straight. Then, he turned right and rowed straight for 2 km and stopped. How far is Nanhe from the starting point?

Options :

1. ✖ 2.7 km
2. ✖ 5 km
3. ✖ 7 km
4. ✔ 3 km

Question Number : 33 Question Id : 54592740635 Question Type : MCQ Option Shuffling : Yes

Correct Marks : 1 Wrong Marks : 0.25

नन्हे झील में मछली पकड़ने गया था। वह सीधे पूर्व की ओर रोइंग करने लगा। 2 km सीधे जाने के बाद, वह दाहिनी ओर मुड़ गया और 3 km रोइंग करने लगा। फिर, वह दाईं ओर मुड़ गया और सीधे 2 km तक जाकर रुक गया। नन्हे शुरुआती बिंदु से कितनी दूर है?

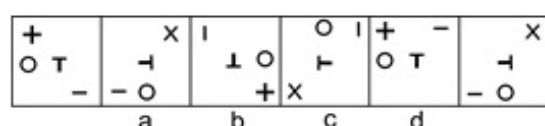
Options :

1. ✖ 2.7 km
2. ✖ 5 km
3. ✖ 7 km
4. ✔ 3 km

Question Number : 34 Question Id : 54592740636 Question Type : MCQ Option Shuffling : Yes

Correct Marks : 1 Wrong Marks : 0.25

Which of the following options is the wrong figure in the series?



Options :

1. ✖ A

2. ✖ B

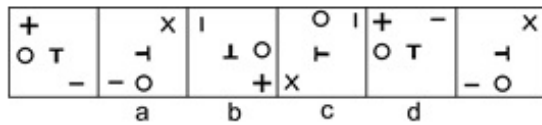
3. ✖ C

4. ✔ D

Question Number : 34 Question Id : 54592740636 Question Type : MCQ Option Shuffling : Yes

Correct Marks : 1 Wrong Marks : 0.25

निम्नलिखित में से कौन सी विकल्प श्रृंखला में गलत आकृति है?



Options :

1. ✖ A

2. ✖ B

3. ✖ C

4. ✔ D

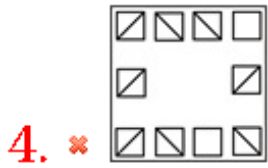
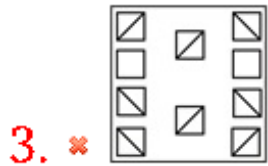
Question Number : 35 Question Id : 54592740637 Question Type : MCQ Option Shuffling : Yes

Correct Marks : 1 Wrong Marks : 0.25

Out of the given options, three are similar in a certain manner. However, one option is NOT like the other three. Select the option which is different from the rest.

Options :

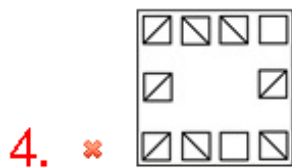
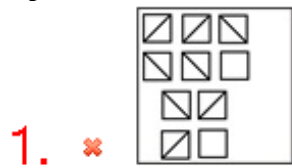




Question Number : 35 Question Id : 54592740637 Question Type : MCQ Option Shuffling : Yes
 Correct Marks : 1 Wrong Marks : 0.25

दिए गए विकल्पों में से, तीन एक निश्चित तरीके से समान हैं। हालाँकि, एक विकल्प अन्य तीन की तरह नहीं है। उस विकल्प का चयन करें जो अन्य से अलग है।

Options :



Question Number : 36 Question Id : 54592740638 Question Type : MCQ Option Shuffling : Yes
Correct Marks : 1 Wrong Marks : 0.25

Each option has a pair of figures. Three are similar in a certain manner. However, one option is NOT like the other three. Select the option which is different from the rest.

Options :



Question Number : 36 Question Id : 54592740638 Question Type : MCQ Option Shuffling : Yes
Correct Marks : 1 Wrong Marks : 0.25

प्रत्येक विकल्प में आकारों की एक जोड़ी है। तीन एक निश्चित तरीके से समान हैं। हालाँकि, एक विकल्प अन्य तीन की तरह नहीं है। उस विकल्प का चयन करें जो अन्य से अलग है।

Options :







Question Number : 37 Question Id : 54592740639 Question Type : MCQ Option Shuffling : Yes

Correct Marks : 1 Wrong Marks : 0.25

Which of the following answer figure completes the pattern shown in the question figure?




Options :




Question Number : 37 Question Id : 54592740639 Question Type : MCQ Option Shuffling : Yes

Correct Marks : 1 Wrong Marks : 0.25

निम्नलिखित में से कौन सी उत्तर आकृति प्रश्न आकृति में दर्शाए गए पैटर्न को पूरा करेगी?



Options :



Question Number : 38 Question Id : 54592740640 Question Type : MCQ Option Shuffling : Yes

Correct Marks : 1 Wrong Marks : 0.25

If a cube is painted blue on two opposite sides, red on another two opposite sides and green on the last two opposite sides and cut into 64 smaller cubes, then how many such smaller cubes will have atleast one side painted red?

Options :

1. ✓ 32
2. ✗ 16
3. ✗ 24
4. ✗ 40

Question Number : 38 Question Id : 54592740640 Question Type : MCQ Option Shuffling : Yes
Correct Marks : 1 Wrong Marks : 0.25

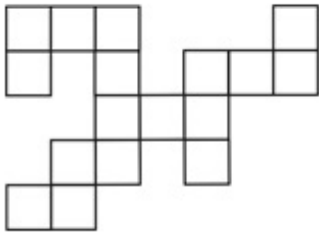
यदि एक घन की दो विपरित पक्षों को नीले रंग से रंगा जाता है, और अन्य दो विपरित पक्षों को लाल रंग से रंगा जाता है और बचे हुए दो विपरित पक्षों को हरे रंग से रंगा जाता है और उसे 64 छोटी घनाकृतियाँ में काट दिया जाता है, तो ऐसी कितनी छोटी घनाकृतियों में कम से कम एक पक्ष पर लाल रंग होगा?

Options :

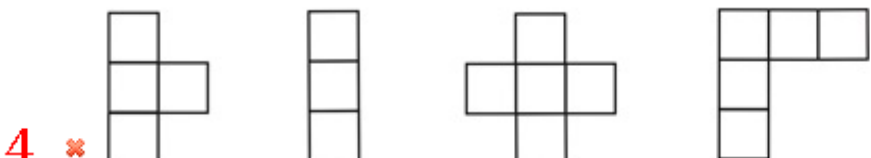
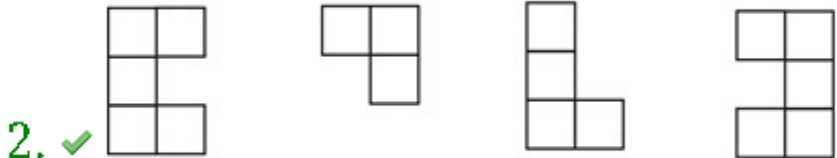
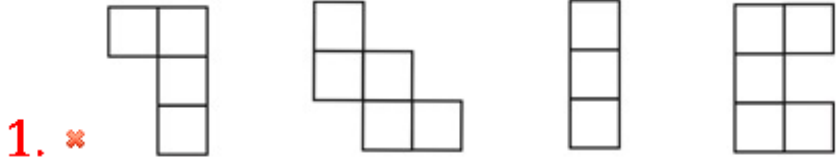
1. ✓ 32
2. ✗ 16
3. ✗ 24
4. ✗ 40

Question Number : 39 Question Id : 54592740641 Question Type : MCQ Option Shuffling : Yes
Correct Marks : 1 Wrong Marks : 0.25

Parts given in which option can be joined to create the pattern given in the question figure?

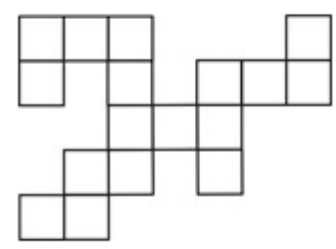


Options :

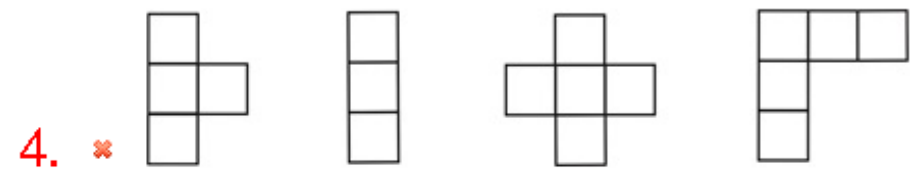
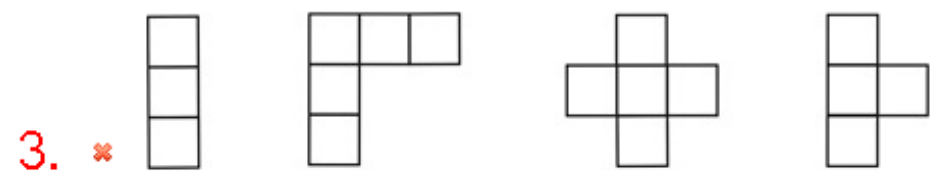
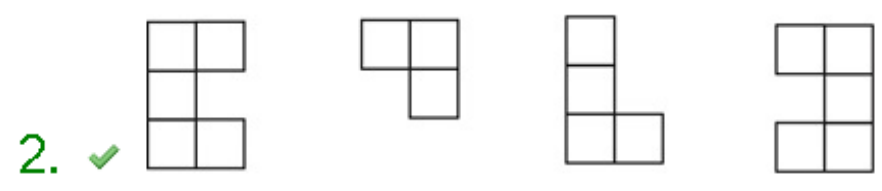
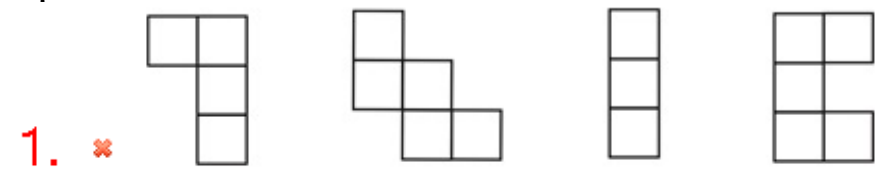


Question Number : 39 Question Id : 54592740641 Question Type : MCQ Option Shuffling : Yes
 Correct Marks : 1 Wrong Marks : 0.25

प्रश्न आकृति में दिए गए पैटर्न को बनाने के लिए कौन से विकल्प के हिस्से जोड़े जा सकते हैं?

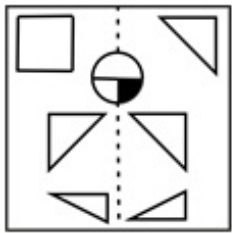


Options :

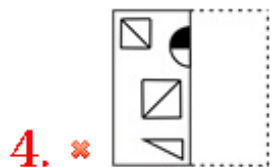
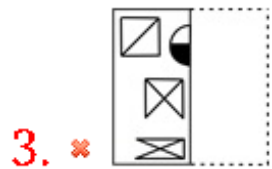
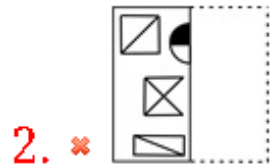
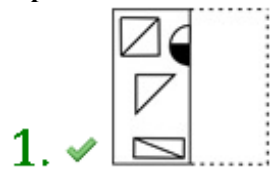


Question Number : 40 Question Id : 54592740642 Question Type : MCQ Option Shuffling : Yes
 Correct Marks : 1 Wrong Marks : 0.25

Find out from amongst the four alternatives as to how the pattern would appear when the transparent sheet is folded at the dotted line.

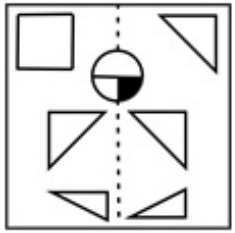


Options :

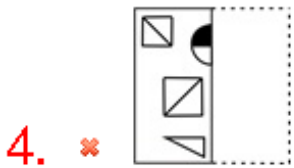
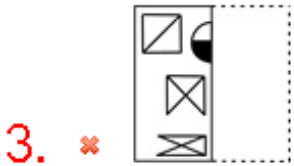
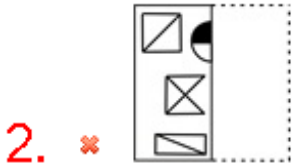
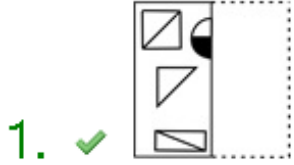


Question Number : 40 Question Id : 54592740642 Question Type : MCQ Option Shuffling : Yes
 Correct Marks : 1 Wrong Marks : 0.25

चार विकल्पों में से यह ज्ञात करें कि बिंदूदार रेखा पर पारदर्शी कागज को मोड़ने पर पैटर्न कैसा दिखाई देगा।



Options :



General Awareness1

Group Number :	3
Group Id :	5459272013
Group Maximum Duration :	0
Group Minimum Duration :	0
Show Attended Group? :	No
Edit Attended Group? :	No
Break time:	0

Group Marks:	20
Is this Group for Examiner?:	No
Revisit allowed for group Instructions? :	Yes
Maximum Instruction Time:	0
Minimum Instruction Time:	0

General Awareness1

Section Id :	5459272013
Section Number :	1
Section type :	Online
Mandatory or Optional:	Mandatory
Number of Questions:	20
Number of Questions to be attempted:	20
Section Marks:	20

Sub-Section Number:	1
Sub-Section Id:	5459272415
Question Shuffling Allowed :	Yes

Question Number : 41 Question Id : 54592740643 Question Type : MCQ Option Shuffling : Yes
Correct Marks : 1 Wrong Marks : 0.25

Which of these musical instruments is one of the oldest bowed instruments of India in which one has to press the fingernails of the left hand against the strings?

Options :

1. * Sarod
2. ✓ Sarangi
3. * Sitar
4. * Guitar

Question Number : 41 Question Id : 54592740643 Question Type : MCQ Option Shuffling : Yes
Correct Marks : 1 Wrong Marks : 0.25

इनमें से कौन सा संगीत वाद्ययंत्र भारत के सबसे पुराने मुड़े हुए वाद्ययंत्रों में से एक है जिसमें किसी को बाएं हाथ के नाखूनों से तार को दबाना होता है?

Options :

1. * सरोद

2. ✓ सारंगी

3. ✘ सितार

4. ✘ गिटार

Question Number : 42 Question Id : 54592740644 Question Type : MCQ Option Shuffling : Yes
Correct Marks : 1 Wrong Marks : 0.25

Which of these is a popular folk dance performed in Kumaun region of Uttarakhand?

Options :

1. ✘ Ghoomar

2. ✘ Kathakali

3. ✘ Dandiya

4. ✓ Chholiya

Question Number : 42 Question Id : 54592740644 Question Type : MCQ Option Shuffling : Yes
Correct Marks : 1 Wrong Marks : 0.25

इनमें से कौन सा लोकप्रिय लोक नृत्य उत्तराखंड के कुमायूं क्षेत्र में किया जाता है?

Options :

1. ✘ घूमर

2. ✘ कथकली

3. ✘ डांडिया

4. ✓ छोलिया

Question Number : 43 Question Id : 54592740645 Question Type : MCQ Option Shuffling : Yes
Correct Marks : 1 Wrong Marks : 0.25

Lord Jagannath, Lord Balabhadra and Goddess Subhadra, of the main Jagannath temple of Puri, are removed with the celestial wheel and taken to their respective chariots during which festival?

Options :

1. ✖ Losar
2. ✔ Rath yatra
3. ✖ Holi
4. ✖ Sankranti

Question Number : 43 Question Id : 54592740645 Question Type : MCQ Option Shuffling : Yes
Correct Marks : 1 Wrong Marks : 0.25

किस त्यौहार के दौरान, पुरी के मुख्य जगन्नाथ मंदिर के भगवान जगन्नाथ, भगवान बलभद्र और देवी सुभद्रा को खगोलीय पहिया से हटाकर उनके संबंधित रथ तक ले जाया जाता है?

Options :

1. ✖ लोसर
2. ✔ रथयात्रा
3. ✖ होली
4. ✖ संक्रांति

Question Number : 44 Question Id : 54592740646 Question Type : MCQ Option Shuffling : Yes
Correct Marks : 1 Wrong Marks : 0.25

The supposed spot where the Jatayu, the bird from Ramayan lay after being attacked by Raavan is named as

_____.

Options :

1. ✖ Virupaksha
2. ✖ Cannanore
3. ✔ Lepakshi
4. ✖ Lumbini

Question Number : 44 Question Id : 54592740646 Question Type : MCQ Option Shuffling : Yes
Correct Marks : 1 Wrong Marks : 0.25

माना जाने वाला स्थान जहाँ जटायु, रामायण में उल्लेखित पक्षी रावण द्वारा प्रहार करने के बाद मर जाता है, उसे _____ नाम दिया गया है।

Options :

1. ✖ वीरूपक्ष
2. ✖ कन्नूर
3. ✔ लेपाक्षि
4. ✖ लुंबिनी

Question Number : 45 Question Id : 54592740647 Question Type : MCQ Option Shuffling : Yes

Correct Marks : 1 Wrong Marks : 0.25

Which was the first bank to introduce ATM in India?

Options :

1. ✖ Axis Bank
2. ✖ ICICI Bank
3. ✖ Indian Overseas Bank
4. ✔ HSBC Bank

Question Number : 45 Question Id : 54592740647 Question Type : MCQ Option Shuffling : Yes

Correct Marks : 1 Wrong Marks : 0.25

भारत में ATM शुरू करने वाला पहला बैंक कौन सा था?

Options :

1. ✖ ऐक्सिस बैंक
2. ✖ आईसीआईसीआई बैंक
3. ✖ इंडियन ओवरसीज़ बैंक
4. ✔ एचएसबीसी बैंक

Question Number : 46 Question Id : 54592740648 Question Type : MCQ Option Shuffling : Yes

Correct Marks : 1 Wrong Marks : 0.25

Which of these is not a factor used in the determination of Gross Domestic Product?

Options :

1. ✖ Consumption
2. ✔ Tax rate
3. ✖ Investment
4. ✖ Net Exports

Question Number : 46 Question Id : 54592740648 Question Type : MCQ Option Shuffling : Yes

Correct Marks : 1 Wrong Marks : 0.25

निम्न में से कौन सा कारक सकल घरेलू उत्पाद के निर्धारण में प्रयुक्त नहीं किया जाता है?

Options :

1. ✖ सेवन
2. ✔ कर दर
3. ✖ निवेश
4. ✖ शुद्ध निर्यात

Question Number : 47 Question Id : 54592740649 Question Type : MCQ Option Shuffling : Yes

Correct Marks : 1 Wrong Marks : 0.25

Which of these is usually measured as the ratio of aggregate output (e.g., GDP) to aggregate inputs?

Options :

1. ✖ Economic Efficiency
2. ✔ Total Factor Productivity
3. ✖ Statutory Liquidity ratio
4. ✖ Economic Power Index

Question Number : 47 Question Id : 54592740649 Question Type : MCQ Option Shuffling : Yes

Correct Marks : 1 Wrong Marks : 0.25

इनमें से कौन सा आमतौर पर कुल इनपुट के कुल आउटपुट (उदाहरण, GDP) के अनुपात के रूप में मापा जाता है?

Options :

1. ✖ आर्थिक दक्षता
2. ✔ कुल घटक उत्पादकता
3. ✖ सांविधिक तरलता अनुपात
4. ✖ आर्थिक शक्ति सूचकांक

Question Number : 48 Question Id : 54592740650 Question Type : MCQ Option Shuffling : Yes

Correct Marks : 1 Wrong Marks : 0.25

A seesaw is an example of a _____.

Options :

1. ✔ lever
2. ✖ gear
3. ✖ accelerator
4. ✖ brake

Question Number : 48 Question Id : 54592740650 Question Type : MCQ Option Shuffling : Yes

Correct Marks : 1 Wrong Marks : 0.25

सी-सा झूला _____ का एक उदाहरण है।

Options :

1. ✔ लिवर
2. ✖ गियर
3. ✖ एक्सेलरेटर
4. ✖ ब्रेक

Question Number : 49 Question Id : 54592740651 Question Type : MCQ Option Shuffling : Yes

Correct Marks : 1 Wrong Marks : 0.25

During a Solar eclipse _____.

Options :

1. ✓ Moon casts shadow on the earth
2. ✗ Sun casts shadow on the Earth
3. ✗ Moon casts shadow on the Sun
4. ✗ Earth casts shadow on the moon

Question Number : 49 Question Id : 54592740651 Question Type : MCQ Option Shuffling : Yes
Correct Marks : 1 Wrong Marks : 0.25

सूर्य ग्रहण के दौरान _____।

Options :

1. ✓ चंद्रमा पृथ्वी पर छाया डालता है
2. ✗ सूर्य पृथ्वी पर छाया डालता है
3. ✗ चंद्रमा सूर्य पर छाया डालता है
4. ✗ पृथ्वी चंद्रमा पर छाया डालती है

Question Number : 50 Question Id : 54592740652 Question Type : MCQ Option Shuffling : Yes
Correct Marks : 1 Wrong Marks : 0.25

Which of these metals undergo oxidation and "Rust"?

Options :

1. ✗ Mercury
2. ✓ Iron
3. ✗ Aluminium
4. ✗ Tungsten

Question Number : 50 Question Id : 54592740652 Question Type : MCQ Option Shuffling : Yes
Correct Marks : 1 Wrong Marks : 0.25

इनमें से कौन सा धातु ऑक्सीकरण और "जंग" से गुजरता है?

Options :

1. ✗ पारा
2. ✓ लोहा
3. ✗ एल्युमिनियम

4. * टंगस्टन

Question Number : 51 Question Id : 54592740653 Question Type : MCQ Option Shuffling : Yes
Correct Marks : 1 Wrong Marks : 0.25

Banana belong to which category of plants?

Options :

1. ✓ Herb
2. * Shrub
3. * Creeper
4. * Tree

Question Number : 51 Question Id : 54592740653 Question Type : MCQ Option Shuffling : Yes
Correct Marks : 1 Wrong Marks : 0.25

केला किस श्रेणी के पौधों से संबंधित है?

Options :

1. ✓ जड़ी-बूटी
2. * क्षुप
3. * लता
4. * पेड़

Question Number : 52 Question Id : 54592740654 Question Type : MCQ Option Shuffling : Yes
Correct Marks : 1 Wrong Marks : 0.25

Which of these contain Chlorofluorocarbons?

Options :

1. * Moisturiser
2. ✓ Aerosol sprays
3. * Eye shadow
4. * Mascara

Question Number : 52 Question Id : 54592740654 Question Type : MCQ Option Shuffling : Yes
Correct Marks : 1 Wrong Marks : 0.25

इनमें से किसमें क्लोरोफ्लोरोकार्बन होते हैं?

Options :

1. ✖ मॉइस्चराइज़र
2. ✔ एयरोसोल स्प्रे
3. ✖ आई शेडो
4. ✖ मस्करा

Question Number : 53 Question Id : 54592740655 Question Type : MCQ Option Shuffling : Yes

Correct Marks : 1 Wrong Marks : 0.25

Every year November 19th is celebrated as _____.

Options :

1. ✖ World Health Day
2. ✖ World Sanitation Day
3. ✖ World Cleaning up day
4. ✔ World Toilet Day

Question Number : 53 Question Id : 54592740655 Question Type : MCQ Option Shuffling : Yes

Correct Marks : 1 Wrong Marks : 0.25

हर साल 19 नवंबर को _____ के रूप में मनाया जाता है।

Options :

1. ✖ विश्व स्वास्थ्य दिवस
2. ✖ विश्व स्वच्छता दिवस
3. ✖ विश्व सफाई दिवस
4. ✔ विश्व शौचालय दिवस

Question Number : 54 Question Id : 54592740656 Question Type : MCQ Option Shuffling : Yes

Correct Marks : 1 Wrong Marks : 0.25

Which of these has been set up to attract Corporate Social Responsibility (CSR) funds from Corporate Sector and contributions from individuals and philanthropists to improve sanitation in India?

Options :

1. ✓ Swachh Bharat Kosh
2. ✗ Clean Ganga Fund
3. ✗ Make in India
4. ✗ Rural Development Fund

Question Number : 54 Question Id : 54592740656 Question Type : MCQ Option Shuffling : Yes
Correct Marks : 1 Wrong Marks : 0.25

इनमें से किसे कॉर्पोरेट सेक्टर से नैगमिक सामाजिक उत्तरदायित्व निधि को आकर्षित करने के लिए और भारत में स्वच्छता को बेहतर बनाने के लिए व्यक्तियों और परोपकारी लोगों के योगदान के लिए स्थापित किया गया है?

Options :

1. ✓ स्वच्छ भारत कोष
2. ✗ स्वच्छ गंगा निधि
3. ✗ मेक इन इंडिया
4. ✗ ग्रामीण विकास निधि

Question Number : 55 Question Id : 54592740657 Question Type : MCQ Option Shuffling : Yes
Correct Marks : 1 Wrong Marks : 0.25

Which of these is not a Reptile?

Options :

1. ✗ Turtles
2. ✗ Crocodile
3. ✗ Snake
4. ✓ Spiny Anteater

Question Number : 55 Question Id : 54592740657 Question Type : MCQ Option Shuffling : Yes
Correct Marks : 1 Wrong Marks : 0.25

इनमें से कौन सा एक सरीसृप नहीं है?

Options :

1. ✖ कछुए
2. ✖ मगरमच्छ
3. ✖ साँप
4. ✔ स्पाइनी ऐंटइटर

Question Number : 56 Question Id : 54592740658 Question Type : MCQ Option Shuffling : Yes
Correct Marks : 1 Wrong Marks : 0.25

Which of these is not a major tributary of the Tapti River?

Options :

1. ✖ Purna
2. ✔ Reva
3. ✖ Girna
4. ✖ Panjhra

Question Number : 56 Question Id : 54592740658 Question Type : MCQ Option Shuffling : Yes
Correct Marks : 1 Wrong Marks : 0.25

इनमें से कौन सी ताप्ती नदी की प्रमुख सहायक नदी नहीं है?

Options :

1. ✖ पूर्णा
2. ✔ रेवा
3. ✖ गिरणा
4. ✖ पंझरा

Question Number : 57 Question Id : 54592740659 Question Type : MCQ Option Shuffling : Yes
Correct Marks : 1 Wrong Marks : 0.25

Durand Line is the border between Pakistan and which other country?

Options :

1. ✖ China
2. ✖ Nepal

3. ✓ Afghanistan

4. ✗ India

Question Number : 57 Question Id : 54592740659 Question Type : MCQ Option Shuffling : Yes

Correct Marks : 1 Wrong Marks : 0.25

डूरंड रेखा पाकिस्तान और किस देश के बीच की सीमा है?

Options :

1. ✗ चीन

2. ✗ नेपाल

3. ✓ अफ़ग़ानिस्तान

4. ✗ भारत

Question Number : 58 Question Id : 54592740660 Question Type : MCQ Option Shuffling : Yes

Correct Marks : 1 Wrong Marks : 0.25

Which is the location of the southernmost point of India's territory?

Options :

1. ✗ Sir Creek

2. ✗ Similan Islands

3. ✗ Maliku Kandu

4. ✓ Indira Point

Question Number : 58 Question Id : 54592740660 Question Type : MCQ Option Shuffling : Yes

Correct Marks : 1 Wrong Marks : 0.25

भारत के क्षेत्र के सबसे दक्षिणी बिंदु का स्थान कौन सा है?

Options :

1. ✗ सिर क्रिक

2. ✗ सिमिलन द्वीप

3. ✗ मलिकू कंदू

4. ✓ इंदिरा पॉइंट

Question Number : 59 Question Id : 54592740661 Question Type : MCQ Option Shuffling : Yes

Correct Marks : 1 Wrong Marks : 0.25

Which of these soils is highly fertile and found in most abundance in India?

Options :

1. ✖ Laterite
2. ✖ Black
3. ✔ Alluvial
4. ✖ Red

Question Number : 59 Question Id : 54592740661 Question Type : MCQ Option Shuffling : Yes

Correct Marks : 1 Wrong Marks : 0.25

इनमें से कौन सी मृदा सबसे उपजाऊ है और भारत में सबसे अधिक बहुतायत में पाई जाती है?

Options :

1. ✖ लैटेराइट
2. ✖ काली
3. ✔ एल्यूवियल
4. ✖ लाल

Question Number : 60 Question Id : 54592740662 Question Type : MCQ Option Shuffling : Yes

Correct Marks : 1 Wrong Marks : 0.25

Which of these is the most common tidal pattern, featuring two high tides and two low tides each day?

Options :

1. ✖ Diurnal Tides
2. ✖ Mixed Tide
3. ✔ Semi-diurnal Tide
4. ✖ Tidal Bore

Question Number : 60 Question Id : 54592740662 Question Type : MCQ Option Shuffling : Yes

Correct Marks : 1 Wrong Marks : 0.25

इनमें से कौन सा सबसे आम ज्वारीय पैटर्न है, जिसमें प्रत्येक दिन दो उच्च ज्वार और दो निम्न ज्वार होती हैं?

Options :

1. * डायरनल ज्वार
2. * मिश्रित ज्वार
3. ✓ अर्ध-डायरनल ज्वार
4. * ज्वारीय बोर

General Awareness2

Group Number :	4
Group Id :	5459272014
Group Maximum Duration :	0
Group Minimum Duration :	0
Show Attended Group? :	No
Edit Attended Group? :	No
Break time:	0
Group Marks:	20
Is this Group for Examiner? :	No
Revisit allowed for group Instructions? :	Yes
Maximum Instruction Time:	0
Minimum Instruction Time:	0

General Awareness2

Section Id :	5459272014
Section Number :	1
Section type :	Online
Mandatory or Optional:	Mandatory
Number of Questions:	20
Number of Questions to be attempted:	20
Section Marks:	20

Sub-Section Number:	1
Sub-Section Id:	5459272416
Question Shuffling Allowed :	Yes

Question Number : 61 Question Id : 54592740663 Question Type : MCQ Option Shuffling : Yes
Correct Marks : 1 Wrong Marks : 0.25

Movements of water due to the differences in density as a function of water temperature and salinity is called as the _____.

Options :

1. ✓ Thermohaline Circulation
2. ✗ Mixed Tide
3. ✗ Tidal Bore
4. ✗ Bernoulli's Principle

Question Number : 61 Question Id : 54592740663 Question Type : MCQ Option Shuffling : Yes

Correct Marks : 1 Wrong Marks : 0.25

पानी के तापमान और लवणता के कार्य के रूप में घनत्व में अंतर के कारण होती पानी की गति को _____ कहा जाता है।

Options :

1. ✓ थर्मोहेलिन सर्कुलेशन
2. ✗ मिश्रित ज्वार
3. ✗ ज्वारीय बोर
4. ✗ बर्नूली का सिद्धांत

Question Number : 62 Question Id : 54592740664 Question Type : MCQ Option Shuffling : Yes

Correct Marks : 1 Wrong Marks : 0.25

A central area in a city that is heavily fortified during the Indus Valley Civilizations was called as _____.

Options :

1. ✗ Seals
2. ✗ Edicts
3. ✓ Citadel
4. ✗ Granary

Question Number : 62 Question Id : 54592740664 Question Type : MCQ Option Shuffling : Yes

Correct Marks : 1 Wrong Marks : 0.25

शहर का एक केंद्रीय क्षेत्र जो सिंधु घाटी सभ्यताओं के दौरान भारी किलाबन्द किया गया था उसे _____ कहा जाता था।

Options :

1. * सील्स
2. * एडिक्ट
3. ✓ गढ़
4. * धान्यागार

Question Number : 63 Question Id : 54592740665 Question Type : MCQ Option Shuffling : Yes
Correct Marks : 1 Wrong Marks : 0.25

The Brihadeeshwara Temple was built during the reign of which of these dynasties?

Options :

1. * Pandya
2. * Pallava
3. ✓ Chola
4. * Maurya

Question Number : 63 Question Id : 54592740665 Question Type : MCQ Option Shuffling : Yes
Correct Marks : 1 Wrong Marks : 0.25

बृहदेश्वर मंदिर का निर्माण किस राजवंश के शासनकाल के दौरान किया गया था?

Options :

1. * पाण्ड्य
2. * पल्लव
3. ✓ चोल
4. * मौर्य

Question Number : 64 Question Id : 54592740666 Question Type : MCQ Option Shuffling : Yes
Correct Marks : 1 Wrong Marks : 0.25

Kautilya served which of these emperors?

Options :

1. * Ashoka
2. * Siddhartha
3. ✓ Chandragupta Maurya
4. * Rajendra Chola

Question Number : 64 Question Id : 54592740666 Question Type : MCQ Option Shuffling : Yes
Correct Marks : 1 Wrong Marks : 0.25

कौटिल्य ने इनमें से किस सम्राट की सेवा की?

Options :

1. * अशोका
2. * सिद्धार्थ
3. ✓ चंद्रगुप्त मौर्य
4. * राजेंद्र चोल

Question Number : 65 Question Id : 54592740667 Question Type : MCQ Option Shuffling : Yes
Correct Marks : 1 Wrong Marks : 0.25

Emilie Schenkl was the wife of which of these revolutionary leaders?

Options :

1. * Raja Rammohan Roy
2. ✓ Subhash Chandra Bose
3. * Maulana Azad
4. * Muhammad Ali Jinnah

Question Number : 65 Question Id : 54592740667 Question Type : MCQ Option Shuffling : Yes
Correct Marks : 1 Wrong Marks : 0.25

एमिली शेंकल इनमें से किस क्रांतिकारी नेता की पत्नी थीं?

Options :

1. * राजा राममोहन राय

2. ✓ सुभाष चंद्र बोस
3. ✘ मौलाना आज़ाद
4. ✘ मोहम्मद अली जिन्ना

Question Number : 66 Question Id : 54592740668 Question Type : MCQ Option Shuffling : Yes
Correct Marks : 1 Wrong Marks : 0.25

Annie Besant and Lokmanya Tilak launched which movement together?

Options :

1. ✘ World Teacher Project
2. ✓ All India Home Rule League
3. ✘ Indian National Congress
4. ✘ Fabien Society

Question Number : 66 Question Id : 54592740668 Question Type : MCQ Option Shuffling : Yes
Correct Marks : 1 Wrong Marks : 0.25

एनी बेसेंट और लोकमान्य तिलक ने किस आंदोलन की शुरुआत की थी?

Options :

1. ✘ विश्व शिक्षक परियोजना
2. ✓ ऑल इंडिया होम रूल लीग
3. ✘ भारतीय राष्ट्रीय कांग्रेस
4. ✘ फ़ेबियन समाजवाद

Question Number : 67 Question Id : 54592740669 Question Type : MCQ Option Shuffling : Yes
Correct Marks : 1 Wrong Marks : 0.25

Who was one of the first female members of the Indian National Congress and was shot dead during the Tamluk Police Station March?

Options :

1. ✘ Kanaklata Baruah
2. ✓ Matangini Hazra

3. * Bhogeshwari Phuknani

4. * Bhikaji Cama

Question Number : 67 Question Id : 54592740669 Question Type : MCQ Option Shuffling : Yes

Correct Marks : 1 Wrong Marks : 0.25

भारतीय राष्ट्रीय कांग्रेस की पहली महिला सदस्य कौन थी और जिसकी तमलुक पुलिस स्टेशन मार्च के दौरान गोली मारकर हत्या कर दी गई थी?

Options :

1. * कनकलता बरुआ

2. ✓ मातंगिनी हाजरा

3. * भोगेश्वरी फुकनानी

4. * भीखाजी कामा

Question Number : 68 Question Id : 54592740670 Question Type : MCQ Option Shuffling : Yes

Correct Marks : 1 Wrong Marks : 0.25

Who is the only film maker to receive the Bharat Ratna?

Options :

1. * Yash Johar

2. * J. P. Sippy

3. * Karan Johar

4. ✓ Satyajit Ray

Question Number : 68 Question Id : 54592740670 Question Type : MCQ Option Shuffling : Yes

Correct Marks : 1 Wrong Marks : 0.25

भारत रत्न पाने वाले एकमात्र फिल्म निर्माता कौन हैं?

Options :

1. * यश जौहर

2. * जे. पी. सिप्पी

3. * करण जौहर

4. ✓ सत्यजित राय

Question Number : 69 Question Id : 54592740671 Question Type : MCQ Option Shuffling : Yes
Correct Marks : 1 Wrong Marks : 0.25

Which of these awards is the peacetime equivalent of the Param Vir Chakra?

Options :

1. ✖ Sarvottam Yudh Seva Medal
2. ✖ Vir Chakra
3. ✖ Maha Vir Chakra
4. ✓ Ashoka Chakra

Question Number : 69 Question Id : 54592740671 Question Type : MCQ Option Shuffling : Yes
Correct Marks : 1 Wrong Marks : 0.25

इनमें से कौन-सा पुरस्कार परमवीर चक्र के असैनिक काल समान है?

Options :

1. ✖ सर्वोत्तम युध सेवा पदक
2. ✖ वीर चक्र
3. ✖ महा वीर चक्र
4. ✓ अशोक चक्र

Question Number : 70 Question Id : 54592740672 Question Type : MCQ Option Shuffling : Yes
Correct Marks : 1 Wrong Marks : 0.25

Rani Lakshmi Bai Award is given away by the President every year for _____.

Options :

1. ✓ Best Institution for Research & Development in the field of women empowerment
2. ✖ Best Private Sector organization/ Public sector undertaking in promoting the well-being and welfare of women

3. * Best Urban Local body for providing services and facilities to women

4. * Best State which has appreciably improved Child Sex Ratio (CSR)

Question Number : 70 Question Id : 54592740672 Question Type : MCQ Option Shuffling : Yes
Correct Marks : 1 Wrong Marks : 0.25

हर साल राष्ट्रपति द्वारा _____ के लिए रानी लक्ष्मी बाई पुरस्कार दिया जाता है।

Options :

1. ✓ महिला सशक्तीकरण के क्षेत्र में अनुसंधान और विकास के लिए सर्वश्रेष्ठ संस्थान

2. * महिलाओं की भलाई और कल्याण को बढ़ावा देने के लिए सर्वश्रेष्ठ निजी क्षेत्र संगठन/सार्वजनिक क्षेत्र का उपक्रम

3. * महिलाओं को सेवाएं और सुविधाएं प्रदान करने के लिए सर्वश्रेष्ठ शहरी स्थानीय निकाय

4. * बाल लिंग अनुपात (सीएसआर) को सुधारने के लिए सर्वश्रेष्ठ राज्य

Question Number : 71 Question Id : 54592740673 Question Type : MCQ Option Shuffling : Yes
Correct Marks : 1 Wrong Marks : 0.25

The Bharatiya Jnanpith, a research and cultural institute founded in 1944 by which of these eminent people?

Options :

1. ✓ Sahu Shanti Prasad Jain

2. * Jawaharlal Nehru

3. * Indira Gandhi

4. * J.R.D.Tata

Question Number : 71 Question Id : 54592740673 Question Type : MCQ Option Shuffling : Yes
Correct Marks : 1 Wrong Marks : 0.25

इनमें से कौन से प्रख्यात व्यक्ति ने 1944 में भारतीय ज्ञानपीठ, एक शोध और सांस्कृतिक संस्थान की स्थापना की थी?

Options :

1. ✓ साहु शांति प्रसाद जैन
2. ✗ जवाहरलाल नेहरू
3. ✗ इंदिरा गांधी
4. ✗ जे.आर.डी. टाटा

Question Number : 72 Question Id : 54592740674 Question Type : MCQ Option Shuffling : Yes

Correct Marks : 1 Wrong Marks : 0.25

Which of these has won the "Booker of Bookers" and "Best of Bookers" award?

Options :

1. ✗ God of Small Things
2. ✗ Lord of the Flies
3. ✗ Great Gatsby
4. ✓ Midnight's Children

Question Number : 72 Question Id : 54592740674 Question Type : MCQ Option Shuffling : Yes

Correct Marks : 1 Wrong Marks : 0.25

इनमें से किसने "बुकर ऑफ बुकर्स" और "बेस्ट ऑफ बुकर्स" पुरस्कार जीता है?

Options :

1. ✗ गॉड ऑफ स्माल थिंग्स
2. ✗ लार्ड ऑफ द फ्लाइस
3. ✗ ग्रेट गैट्सबी
4. ✓ मिडनाइट'स चिल्ड्रन

Question Number : 73 Question Id : 54592740675 Question Type : MCQ Option Shuffling : Yes

Correct Marks : 1 Wrong Marks : 0.25

Who is regarded as the father of India's nuclear science program?

Options :

1. ✓ Homi Jehangir Bhabha
2. ✗ Vikram Sarabhai
3. ✗ C.V. Raman
4. ✗ A.P.J. Abdul Kalam

Question Number : 73 Question Id : 54592740675 Question Type : MCQ Option Shuffling : Yes

Correct Marks : 1 Wrong Marks : 0.25

भारत के परमाणु विज्ञान कार्यक्रम का जनक किसे माना जाता है?

Options :

1. ✓ होमी जहांगीर भाभा
2. ✗ विक्रम साराभाई
3. ✗ सी.वी.रमन
4. ✗ ए.पी.जे.अब्दुल कलाम

Question Number : 74 Question Id : 54592740676 Question Type : MCQ Option Shuffling : Yes

Correct Marks : 1 Wrong Marks : 0.25

Which of these is not a Fundamental Right?

Options :

1. ✗ freedom of speech and expression
2. ✗ to move freely throughout the territory of India
3. ✗ to form associations or unions
4. ✓ Assembling carrying arms

Question Number : 74 Question Id : 54592740676 Question Type : MCQ Option Shuffling : Yes

Correct Marks : 1 Wrong Marks : 0.25

इनमें से कौन सा एक मौलिक अधिकार नहीं है?

Options :

1. ✗ बोलने और अभिव्यक्ति की स्वतंत्रता

2. * पूरे भारत में स्वतंत्र रूप से घूमना
3. * संघों या यूनियनों के गठन
4. ✓ हथियार लेकर जाने को एसेम्बल करना

Question Number : 75 Question Id : 54592740677 Question Type : MCQ Option Shuffling : Yes
Correct Marks : 1 Wrong Marks : 0.25

Who delivers the opening address for the first session of the parliament, as well as the first session of a newly elected government, defining the policies of the government?

Options :

1. * Prime Minister
2. ✓ President
3. * Chief Minister
4. * Governor

Question Number : 75 Question Id : 54592740677 Question Type : MCQ Option Shuffling : Yes
Correct Marks : 1 Wrong Marks : 0.25

संसद के पहले सत्र के साथ-साथ सरकार की नीतियों को परिभाषित करते हुए नवनिर्वाचित सरकार के पहले सत्र का प्रारंभिक भाषण कौन देता है?

Options :

1. * प्रधान मंत्री
2. ✓ राष्ट्रपति
3. * मुख्यमंत्री
4. * राज्यपाल

Question Number : 76 Question Id : 54592740678 Question Type : MCQ Option Shuffling : Yes
Correct Marks : 1 Wrong Marks : 0.25

Every Judge of the Supreme Court is appointed by

_____.

Options :

1. * Prime Minister
2. * Chief Minister
3. * Governor
4. ✓ President

Question Number : 76 Question Id : 54592740678 Question Type : MCQ Option Shuffling : Yes
Correct Marks : 1 Wrong Marks : 0.25

सर्वोच्च न्यायालय के प्रत्येक न्यायाधीश को _____
द्वारा नियुक्त किया जाता है।

Options :

1. * प्रधान मंत्री
2. * मुख्यमंत्री
3. * राज्यपाल
4. ✓ राष्ट्रपति

Question Number : 77 Question Id : 54592740679 Question Type : MCQ Option Shuffling : Yes
Correct Marks : 1 Wrong Marks : 0.25

Prohibition of discrimination on the grounds of religion, race, caste, sex. Or place of birth is listed in which article of the Constitution?

Options :

1. * Article 1
2. * Article 5
3. * Article 20
4. ✓ Article 15

Question Number : 77 Question Id : 54592740679 Question Type : MCQ Option Shuffling : Yes
Correct Marks : 1 Wrong Marks : 0.25

संविधान के किस अनुच्छेद में धर्म, जाति, जात-पाँत, लिंग या या जन्म स्थान के आधार पर भेदभाव के निषेध को सूचीबद्ध किया गया है?

Options :

1. * अनुच्छेद 1
2. * अनुच्छेद 5
3. * अनुच्छेद 20
4. ✓ अनुच्छेद 15

Question Number : 78 Question Id : 54592740680 Question Type : MCQ Option Shuffling : Yes
Correct Marks : 1 Wrong Marks : 0.25

Who has won the most Grand Slam tournaments of any male player in tennis history?

Options :

1. * Rafael Nadal
2. * Novak Djokovic
3. ✓ Roger Federer
4. * Pete Sampras

Question Number : 78 Question Id : 54592740680 Question Type : MCQ Option Shuffling : Yes
Correct Marks : 1 Wrong Marks : 0.25

टेनिस इतिहास में किसी भी पुरुष खिलाड़ी के सबसे अधिक ग्रैंड स्लैम टूर्नामेंट किसने जीते हैं?

Options :

1. * रफ़ाएल नडाल
2. * नोवाक जोकोविच
3. ✓ रोजर फ़ेडरर
4. * पीट सम्प्रास

Question Number : 79 Question Id : 54592740681 Question Type : MCQ Option Shuffling : Yes
Correct Marks : 1 Wrong Marks : 0.25

Who is the first Indian female wrestler to win an Olympic Medal?

Options :

1. * Babita Phogat
2. * Geeta Phogat
3. * Karnam Malleshwari
4. ✓ Sakshi Malik

Question Number : 79 Question Id : 54592740681 Question Type : MCQ Option Shuffling : Yes
Correct Marks : 1 Wrong Marks : 0.25

ओलंपिक पदक जीतने वाली पहली भारतीय महिला पहलवान कौन है?

Options :

1. * बबिता फोगट
2. * गीता फोगट
3. * कर्णम मल्लेश्वरी
4. ✓ साक्षी मलिक

Question Number : 80 Question Id : 54592740682 Question Type : MCQ Option Shuffling : Yes
Correct Marks : 1 Wrong Marks : 0.25

Who is the first recipient of the Khel Ratna Award?

Options :

1. * Kapil Dev
2. * P.T.Usha
3. * Milkha Singh
4. ✓ Viswanathan Anand

Question Number : 80 Question Id : 54592740682 Question Type : MCQ Option Shuffling : Yes
Correct Marks : 1 Wrong Marks : 0.25

खेल रत्न पुरस्कार का पहला प्राप्तकर्ता कौन है?

Options :

1. * कपिल देव
2. * पी.टी. उशा
3. * मिलखा सिंह

4. ✓ विश्वनाथन आनंद

Arithmetic Ability1

Group Number :	5
Group Id :	5459272015
Group Maximum Duration :	0
Group Minimum Duration :	0
Show Attended Group? :	No
Edit Attended Group? :	No
Break time:	0
Group Marks:	20
Is this Group for Examiner?:	No
Revisit allowed for group Instructions? :	Yes
Maximum Instruction Time:	0
Minimum Instruction Time:	0

Arithmetic Ability1

Section Id :	5459272015
Section Number :	1
Section type :	Online
Mandatory or Optional:	Mandatory
Number of Questions:	20
Number of Questions to be attempted:	20
Section Marks:	20

Sub-Section Number:	1
Sub-Section Id:	5459272417
Question Shuffling Allowed :	Yes

Question Number : 81 Question Id : 54592740683 Question Type : MCQ Option Shuffling : Yes
Correct Marks : 1 Wrong Marks : 0.25

Find the number, when 13 is subtracted from 6 times the number, the result is 5 more than 4 times the number

Options :

1. ✖ 10

2. ✖ 6

3. ✖ 7

4. ✓ 9

Question Number : 81 Question Id : 54592740683 Question Type : MCQ Option Shuffling : Yes
Correct Marks : 1 Wrong Marks : 0.25

जब 13 को 6 गुना संख्या से घटाया जाता है, तो परिणाम 4 गुना संख्या से 5 गुना अधिक होता है, वह संख्या ज्ञात करें।

Options :

1. ✖ 10
2. ✖ 6
3. ✖ 7
4. ✔ 9

Question Number : 82 Question Id : 54592740684 Question Type : MCQ Option Shuffling : Yes
Correct Marks : 1 Wrong Marks : 0.25

Find the greatest number by which on dividing 3431 and 4628 leaves remainders 4 and 9 respectively.

Options :

1. ✔ 149
2. ✖ 137
3. ✖ 119
4. ✖ 97

Question Number : 82 Question Id : 54592740684 Question Type : MCQ Option Shuffling : Yes
Correct Marks : 1 Wrong Marks : 0.25

3431 और 4628 को विभाजित करने पर सबसे बड़ी संख्या क्रमशः 4 और 9 शेष रहती है। संख्या ज्ञात करें?

Options :

1. ✔ 149
2. ✖ 137
3. ✖ 119
4. ✖ 97

Question Number : 83 Question Id : 54592740685 Question Type : MCQ Option Shuffling : Yes
Correct Marks : 1 Wrong Marks : 0.25

Find the HCF of 1012 and 1196.

Options :

1. ✖ 575
2. ✖ 299
3. ✖ 414
4. ✔ 92

Question Number : 83 Question Id : 54592740685 Question Type : MCQ Option Shuffling : Yes
Correct Marks : 1 Wrong Marks : 0.25

1012 और 1196 का महत्तम समापवर्तक (HCF) ज्ञात कीजिये।

Options :

1. ✖ 575
2. ✖ 299
3. ✖ 414
4. ✔ 92

Question Number : 84 Question Id : 54592740686 Question Type : MCQ Option Shuffling : Yes
Correct Marks : 1 Wrong Marks : 0.25

Find the least number which will leave remainder 6 when divided by 12, 8 and 20.

Options :

1. ✔ 126
2. ✖ 120
3. ✖ 114
4. ✖ 108

Question Number : 84 Question Id : 54592740686 Question Type : MCQ Option Shuffling : Yes
Correct Marks : 1 Wrong Marks : 0.25

कम से कम संख्या ज्ञात कीजिए जो 12, 8 और 20 से विभाजित होने पर शेष 6 को छोड़ देगा।

Options :

1. ✓ 126
2. ✗ 120
3. ✗ 114
4. ✗ 108

Question Number : 85 Question Id : 54592740687 Question Type : MCQ Option Shuffling : Yes
Correct Marks : 1 Wrong Marks : 0.25

Find the largest five digits number exactly divisible by 15, 18, 24 and 27

Options :

1. ✗ 99989
2. ✓ 99360
3. ✗ 99729
4. ✗ 99657

Question Number : 85 Question Id : 54592740687 Question Type : MCQ Option Shuffling : Yes
Correct Marks : 1 Wrong Marks : 0.25

15, 18, 24 और 27 द्वारा विभाज्य सबसे बड़ी पांच अंकों की संख्या ज्ञात करें।

Options :

1. ✗ 99989
2. ✓ 99360
3. ✗ 99729
4. ✗ 99657

Question Number : 86 Question Id : 54592740688 Question Type : MCQ Option Shuffling : Yes
Correct Marks : 1 Wrong Marks : 0.25

A red light blinks on a device every 36 seconds. Another red light blinks on another device every 56 seconds. Right now the time is 11:24 am. At what time exactly will they blink together?

Options :

1. ✖ 11:30:18 AM
2. ✔ 11:32:24 AM
3. ✖ 11:29:42 AM
4. ✖ 11:31:36 AM

Question Number : 86 Question Id : 54592740688 Question Type : MCQ Option Shuffling : Yes
Correct Marks : 1 Wrong Marks : 0.25

हर 36 सेकंड में एक यंत्र पर लाल बत्ती जलती है। एक और लाल बत्ती हर 56 सेकंड में एक अन्य यंत्र पर जलती है। अभी समय 11:24 पूर्वाह्न है। किस समय वे एक साथ जलेंगी ?

Options :

1. ✖ 11:30:18 पूर्वाह्न
2. ✔ 11:32:24 पूर्वाह्न
3. ✖ 11:29:42 पूर्वाह्न
4. ✖ 11:31:36 पूर्वाह्न

Question Number : 87 Question Id : 54592740689 Question Type : MCQ Option Shuffling : Yes
Correct Marks : 1 Wrong Marks : 0.25

Find the value of: $(0.0016 + 0.0044) \times 6.25 = ?$

Options :

1. ✖ 0.375
2. ✔ 0.0375
3. ✖ 0.0275
4. ✖ 0.275

Question Number : 87 Question Id : 54592740689 Question Type : MCQ Option Shuffling : Yes
Correct Marks : 1 Wrong Marks : 0.25

$(0.0016+0.0044) \times 6.25 = ?$ का मान ज्ञात करें।

Options :

1. ✖ 0.375
2. ✔ 0.0375
3. ✖ 0.0275
4. ✖ 0.275

Question Number : 88 Question Id : 54592740690 Question Type : MCQ Option Shuffling : Yes
Correct Marks : 1 Wrong Marks : 0.25

In a club there are male and female members. If 16 females quit the club then number of females is thrice the number of males. And if 36 males quit then the number of females is 5 times the number of males. How many female members are there in the club?

Options :

1. ✖ 210
2. ✖ 250
3. ✖ 360
4. ✔ 310

Question Number : 88 Question Id : 54592740690 Question Type : MCQ Option Shuffling : Yes
Correct Marks : 1 Wrong Marks : 0.25

एक क्लब में पुरुष और महिला सदस्य हैं। यदि 16 महिलाएं क्लब छोड़ देती हैं तो महिलाओं की संख्या पुरुषों की संख्या से तीन गुनी है। और यदि 36 पुरुष छोड़ दें तो महिलाओं की संख्या पुरुषों की संख्या से 5 गुना है। क्लब में कितनी महिला सदस्य हैं?

Options :

1. ✖ 210

2. ✖ 250

3. ✖ 360

4. ✔ 310

Question Number : 89 Question Id : 54592740691 Question Type : MCQ Option Shuffling : Yes
Correct Marks : 1 Wrong Marks : 0.25

The average temperature from Sunday to Tuesday was 30 degree Celsius. And the average from Monday to Wednesday was 35 degree Celsius. If the temperature of Wednesday was $\frac{2}{3}$ rd of Sunday, what was the temperature of Wednesday?

Options :

1. ✔ 30 degree Celsius

2. ✖ 28 degree Celsius

3. ✖ 31 degree Celsius

4. ✖ 35 degree Celsius

Question Number : 89 Question Id : 54592740691 Question Type : MCQ Option Shuffling : Yes
Correct Marks : 1 Wrong Marks : 0.25

रविवार से मंगलवार तक का औसत तापमान 30 डिग्री सेल्सियस था। और सोमवार से बुधवार तक का औसत 35 डिग्री सेल्सियस था। यदि बुधवार का तापमान रविवार का $\frac{2}{3}$ वां था, बुधवार का तापमान क्या था?

Options :

1. ✔ 30 डिग्री सेल्सियस

2. ✖ 28 डिग्री सेल्सियस

3. ✖ 31 डिग्री सेल्सियस

4. ✖ 35 डिग्री सेल्सियस

Question Number : 90 Question Id : 54592740692 Question Type : MCQ Option Shuffling : Yes
Correct Marks : 1 Wrong Marks : 0.25

Three numbers which are co-primes to each other are such that the product of the first two numbers is 1517 and the last two numbers is 2173. Find the sum of the last two numbers subtracting the first number obtained?

Options :

1. ✖ 61

2. ✔ 57

3. ✖ 47

4. ✖ 71

Question Number : 90 Question Id : 54592740692 Question Type : MCQ Option Shuffling : Yes

Correct Marks : 1 Wrong Marks : 0.25

तीन संख्याएँ जो सह-अभाज्य हैं, ऐसी हैं कि पहली दो संख्याओं का गुणनफल 1517 है और अंतिम दो संख्याओं का गुणनफल 2173 है। प्राप्त पहली संख्या को घटाते हुए अंतिम दो संख्याओं का योग ज्ञात करें?

Options :

1. ✖ 61

2. ✔ 57

3. ✖ 47

4. ✖ 71

Question Number : 91 Question Id : 54592740693 Question Type : MCQ Option Shuffling : Yes

Correct Marks : 1 Wrong Marks : 0.25

1 Jar of honey costs Rs 190. A pack of 4 jars costs Rs 608. What is effective discount % on the pack?

Options :

1. ✖ 25%

2. ✖ 15%

3. ✓ 20%

4. ✗ 10%

Question Number : 91 Question Id : 54592740693 Question Type : MCQ Option Shuffling : Yes

Correct Marks : 1 Wrong Marks : 0.25

1 जार शहद की कीमत 190 रुपए है। 4 जार के एक पैक की कीमत 608 रुपए है। पैक पर प्रभावी छूट कितने % है?

Options :

1. ✗ 25%

2. ✗ 15%

3. ✓ 20%

4. ✗ 10%

Question Number : 92 Question Id : 54592740694 Question Type : MCQ Option Shuffling : Yes

Correct Marks : 1 Wrong Marks : 0.25

The average salary of a person from Jan to April is Rs 8500 and that for Feb to May is Rs 9400. If his salary for May is Rs 7900, then find his salary for Jan?

Options :

1. ✗ 5200

2. ✗ 3900

3. ✗ 6100

4. ✓ 4300

Question Number : 92 Question Id : 54592740694 Question Type : MCQ Option Shuffling : Yes

Correct Marks : 1 Wrong Marks : 0.25

जनवरी से अप्रैल तक एक व्यक्ति का औसत वेतन 8500 रुपए है और फरवरी से मई के बीच 9400 रुपए है। यदि मई के लिए उसका वेतन 7900 रुपए है, तो जनवरी के लिए उसका वेतन खोजें?

Options :

1. ✖ 5200

2. ✖ 3900

3. ✖ 6100

4. ✔ 4300

Question Number : 93 Question Id : 54592740695 Question Type : MCQ Option Shuffling : Yes

Correct Marks : 1 Wrong Marks : 0.25

The sum of 6 numbers is 945. If the average of the first three numbers is 116 and the fourth number is 140, then find the average of the last two numbers?

Options :

1. ✔ 228.5

2. ✖ 208.75

3. ✖ 196.25

4. ✖ 272.55

Question Number : 93 Question Id : 54592740695 Question Type : MCQ Option Shuffling : Yes

Correct Marks : 1 Wrong Marks : 0.25

6 संख्याओं का योग 945 है। यदि पहली तीन संख्याओं का औसत 116 है और चौथी संख्या 140 है, तो अंतिम दो संख्याओं का औसत ज्ञात करें?

Options :

1. ✔ 228.5

2. ✖ 208.75

3. ✖ 196.25

4. ✖ 272.55

Question Number : 94 Question Id : 54592740696 Question Type : MCQ Option Shuffling : Yes

Correct Marks : 1 Wrong Marks : 0.25

X and Y's salaries together amount to Rs 6000. X spends 75% of his salary and Y spends 65% of his salary. If both their savings are same then what is X's Salary?

Options :

1. ✖ 2000
2. ✖ 2600
3. ✔ 3500
4. ✖ 4100

Question Number : 94 Question Id : 54592740696 Question Type : MCQ Option Shuffling : Yes

Correct Marks : 1 Wrong Marks : 0.25

X और Y का वेतन एक साथ 6000 रुपए है। X अपने वेतन का 75% और Y अपने वेतन का 65% खर्च करता है। यदि उनकी बचत दोनों समान हैं तो X का वेतन क्या है?

Options :

1. ✖ 2000
2. ✖ 2600
3. ✔ 3500
4. ✖ 4100

Question Number : 95 Question Id : 54592740697 Question Type : MCQ Option Shuffling : Yes

Correct Marks : 1 Wrong Marks : 0.25

In an examination 32% students failed in Maths and 41% failed in English 25% students failed in both subjects. The percentage of students fail is:

Options :

1. ✖ 98%
2. ✔ 48%
3. ✖ 41%

4. ✖ 59%

Question Number : 95 Question Id : 54592740697 Question Type : MCQ Option Shuffling : Yes
Correct Marks : 1 Wrong Marks : 0.25

एक परीक्षा में गणित में 32% छात्र असफल हुए और अंग्रेजी में 41% छात्र फेल हुए, 25% छात्र दोनों विषयों में असफल हुए। असफल छात्रों का प्रतिशत है:

Options :

1. ✖ 98%

2. ✔ 48%

3. ✖ 41%

4. ✖ 59%

Question Number : 96 Question Id : 54592740698 Question Type : MCQ Option Shuffling : Yes
Correct Marks : 1 Wrong Marks : 0.25

A salesman's terms of remuneration was changed. Instead of a flat commission of 6% on all sales, he will now receive Rs 1000 plus 2% commission on all sales exceeding Rs 5000. If he earns Rs 500 more in the new regime, what were his sales worth ?

Options :

1. ✔ Rs 10000

2. ✖ Rs 12900

3. ✖ Rs 6800

4. ✖ Rs 15600

Question Number : 96 Question Id : 54592740698 Question Type : MCQ Option Shuffling : Yes
Correct Marks : 1 Wrong Marks : 0.25

एक विक्रेता की पारिश्रमिक की शर्तें बदल दी गईं। सभी बिक्री पर 6% के एक फ्लैट कमीशन के बजाय, वह अब 5000 रुपए से अधिक की बिक्री पर 1000 रुपए और 2% कमीशन प्राप्त करेगा। यदि वह नई व्यवस्था में 500 रुपए अधिक कमाता है, तो उसकी बिक्री की स्थिति क्या थी?

Options :

1. ✓ 10000 रुपए
2. ✗ 12900 रुपए
3. ✗ 6800 रुपए
4. ✗ 15600 रुपए

Question Number : 97 Question Id : 54592740699 Question Type : MCQ Option Shuffling : Yes

Correct Marks : 1 Wrong Marks : 0.25

A man purchases 10 pens for Rs 7 each and sells 9 pens For Rs 9 each. What is the profit/loss percent (approx)?

Options :

1. ✗ 23.24%
2. ✗ 57.67%
3. ✗ 28.56%
4. ✓ 42.86%

Question Number : 97 Question Id : 54592740699 Question Type : MCQ Option Shuffling : Yes

Correct Marks : 1 Wrong Marks : 0.25

एक आदमी 7 रुपए में 10 पेन खरीदता है और 9 रुपए में 9 पेन बेचता है। लाभ/हानि प्रतिशत (लगभग) क्या है?

Options :

1. ✗ 23.24%
2. ✗ 57.67%

3. ✖ 28.56%

4. ✔ 42.86%

Question Number : 98 Question Id : 54592740700 Question Type : MCQ Option Shuffling : Yes

Correct Marks : 1 Wrong Marks : 0.25

Rajan mixed 32 kg butter costing Rs 148/kg and 48 kg butter costing Rs 192/kg. At what price should he sell to be able to make a profit of 35%?

Options :

1. ✖ Rs 232.64

2. ✔ Rs 235.44

3. ✖ Rs 252.92

4. ✖ Rs 228.72

Question Number : 98 Question Id : 54592740700 Question Type : MCQ Option Shuffling : Yes

Correct Marks : 1 Wrong Marks : 0.25

राजन ने 32 kg मक्खन की कीमत 148 रुपए/kg और 48 kg मक्खन की कीमत 192/kg को मिश्रित किया। 35% का लाभ कमाने में सक्षम होने के लिए उसे किस मूल्य पर बेचना चाहिए?

Options :

1. ✖ 232.64 रुपए

2. ✔ 235.44 रुपए

3. ✖ 252.92 रुपए

4. ✖ 228.72 रुपए

Question Number : 99 Question Id : 54592740701 Question Type : MCQ Option Shuffling : Yes

Correct Marks : 1 Wrong Marks : 0.25

After allowing a discount of 15% on the marked price, the selling price of the article is Rs 6800. If it was sold at marked price, then the profit percent would have 60%. What is the cost price of the article?

Options :

1. * Rs 6400
2. * Rs 5200
3. ✓ Rs 5000
4. * Rs 4200

Question Number : 99 Question Id : 54592740701 Question Type : MCQ Option Shuffling : Yes

Correct Marks : 1 Wrong Marks : 0.25

चिह्नित मूल्य पर 15% की छूट की अनुमति देने के बाद, वस्तु की विक्रय मूल्य 6800 रुपए है। यदि इसे चिह्नित मूल्य पर बेचा गया था, तो लाभ प्रतिशत 60% होगा। वस्तु की लागत मूल्य क्या है?

Options :

1. * 6400 रुपए
2. * 5200 रुपए
3. ✓ 5000 रुपए
4. * 4200 रुपए

Question Number : 100 Question Id : 54592740702 Question Type : MCQ Option Shuffling : Yes

Correct Marks : 1 Wrong Marks : 0.25

A mixture of aluminium and zinc are in the ratio of 3 : 4. If 5 kg of zinc is added, the ratio changes to 3 : 7. Find the quantity of aluminium in the mixture?

Options :

1. * 6 kg
2. * 5.5 kg
3. ✓ 5 kg

4. ✖ 4 kg

Question Number : 100 Question Id : 54592740702 Question Type : MCQ Option Shuffling : Yes
Correct Marks : 1 Wrong Marks : 0.25

एल्युमिनियम और जस्ते का मिश्रण 3 : 4 के अनुपात में है। यदि 5 kg जस्ता जोड़ा जाता है, तो अनुपात 3 : 7 में बदल जाता है। मिश्रण में एल्युमिनियम की मात्रा को ज्ञात करें?

Options :

1. ✖ 6 kg

2. ✖ 5.5 kg

3. ✔ 5 kg

4. ✖ 4 kg

Arithmetic Ability2

Group Number :	6
Group Id :	5459272016
Group Maximum Duration :	0
Group Minimum Duration :	0
Show Attended Group? :	No
Edit Attended Group? :	No
Break time:	0
Group Marks:	20
Is this Group for Examiner? :	No
Revisit allowed for group Instructions? :	Yes
Maximum Instruction Time:	0
Minimum Instruction Time:	0

Arithmetic Ability2

Section Id :	5459272016
Section Number :	1
Section type :	Online
Mandatory or Optional:	Mandatory
Number of Questions:	20
Number of Questions to be attempted:	20
Section Marks:	20

Sub-Section Number: 1
Sub-Section Id: 5459272418
Question Shuffling Allowed : Yes

Question Number : 101 Question Id : 54592740703 Question Type : MCQ Option Shuffling : Yes
Correct Marks : 1 Wrong Marks : 0.25

A fort of 2000 soldiers had food provisions for 50 days. After 10 days some of them left the fort for holidays and the food now is enough for 50 days. How many soldiers left?

Options :

1. ✖ 200
2. ✖ 300
3. ✔ 400
4. ✖ 600

Question Number : 101 Question Id : 54592740703 Question Type : MCQ Option Shuffling : Yes
Correct Marks : 1 Wrong Marks : 0.25

2000 सैनिकों के एक किले में 50 दिनों के लिए भोजन का इंतजाम था। 10 दिनों के बाद उनमें से कुछ ने छुट्टियों के लिए किले को छोड़ दिया और अब 50 दिनों के लिए भोजन पर्याप्त है। कितने सैनिक चले गए?

Options :

1. ✖ 200
2. ✖ 300
3. ✔ 400
4. ✖ 600

Question Number : 102 Question Id : 54592740704 Question Type : MCQ Option Shuffling : Yes
Correct Marks : 1 Wrong Marks : 0.25

If $(X + Y)/(2X + Y) = 4/5$, then find $(2X + Y)/(3X + Y)$?

Options :

1. ✖ $4/5$

2. ✖ 6/7

3. ✖ 3/4

4. ✔ 5/6

Question Number : 102 Question Id : 54592740704 Question Type : MCQ Option Shuffling : Yes

Correct Marks : 1 Wrong Marks : 0.25

यदि $(X + Y)/(2X + Y) = 4/5$, तो $(2X + Y)/(3X + Y)$ को ज्ञात करें?

Options :

1. ✖ 4/5

2. ✖ 6/7

3. ✖ 3/4

4. ✔ 5/6

Question Number : 103 Question Id : 54592740705 Question Type : MCQ Option Shuffling : Yes

Correct Marks : 1 Wrong Marks : 0.25

A sum of money is invested for one year at a certain rate of simple interest. If the interest rate is 4% higher then the investment will have earned 20% more than the interest earned at the earlier rate. What is the earlier interest rate?

Options :

1. ✖ 22%

2. ✔ 20%

3. ✖ 26%

4. ✖ 18%

Question Number : 103 Question Id : 54592740705 Question Type : MCQ Option Shuffling : Yes

Correct Marks : 1 Wrong Marks : 0.25

साधारण ब्याज की एक निश्चित दर पर एक वर्ष के लिए धन का निवेश किया जाता है। यदि ब्याज दर 4% अधिक है तो निवेश पहले की दर से अर्जित ब्याज से 20% अधिक अर्जित होगा। पहले की ब्याज दर क्या है?

Options :

1. ✖ 22%
2. ✔ 20%
3. ✖ 26%
4. ✖ 18%

Question Number : 104 Question Id : 54592740706 Question Type : MCQ Option Shuffling : Yes

Correct Marks : 1 Wrong Marks : 0.25

Find the C.I on Rs 62500 for 9 months at 16% p.a. compounded quarterly?

Options :

1. ✖ Rs 6850
2. ✖ Rs 8945
3. ✔ Rs 7804
4. ✖ Rs 6161

Question Number : 104 Question Id : 54592740706 Question Type : MCQ Option Shuffling : Yes

Correct Marks : 1 Wrong Marks : 0.25

16% प्रति वर्ष पर तिमाही से 9 महीनों के लिए तिमाही चक्रवृद्धि पर 62,500 रुपए पर चक्रवृद्धि ब्याज ज्ञात करें।

Options :

1. ✖ 6850 रुपए
2. ✖ 8945 रुपए
3. ✔ 7804 रुपए

4. * 6161 रुपए

Question Number : 105 Question Id : 54592740707 Question Type : MCQ Option Shuffling : Yes
Correct Marks : 1 Wrong Marks : 0.25

In what time will the simple interest on Rs 400 at 10% p.a. be same as the simple interest on Rs 1000 for 4 years ta 4% p.a.?

Options :

1. * 2 years
2. * 3 years
3. ✓ 4 years
4. * 6 years

Question Number : 105 Question Id : 54592740707 Question Type : MCQ Option Shuffling : Yes
Correct Marks : 1 Wrong Marks : 0.25

कितने समय में 400 रुपए 10% प्रति वर्ष साधारण ब्याज दर से, 1000 रुपए 4% प्रति वर्ष सधारण ब्याज दर से 4 वर्ष के बराबर होगा?

Options :

1. * 2 वर्ष
2. * 3 वर्ष
3. ✓ 4 वर्ष
4. * 6 वर्ष

Question Number : 106 Question Id : 54592740708 Question Type : MCQ Option Shuffling : Yes
Correct Marks : 1 Wrong Marks : 0.25

Two trains each 320 m in length are running on parallel line in opposite direction with the speed of 95 kmph and 85kmph respectively. In what time will they cross each other?

Options :

1. * 11.9 sec
2. ✓ 12.8 sec
3. * 13.1 sec

4. ✖ 8.9 sec

Question Number : 106 Question Id : 54592740708 Question Type : MCQ Option Shuffling : Yes
Correct Marks : 1 Wrong Marks : 0.25

320 m लंबी दो रेलगाड़ियाँ क्रमशः 95 kmph और 85 kmph की गति के साथ समानांतर दिशा में चल रही हैं। किस समय में वे एक दूसरे को पार करेंगी?

Options :

1. ✖ 11.9 सेकंड

2. ✔ 12.8 सेकंड

3. ✖ 13.1 सेकंड

4. ✖ 8.9 सेकंड

Question Number : 107 Question Id : 54592740709 Question Type : MCQ Option Shuffling : Yes
Correct Marks : 1 Wrong Marks : 0.25

Two cars are moving towards each other. They are 16 kms apart and are moving at the speed of 64 m/s and 36 m/s respectively. After how much time do the cars meet?

Options :

1. ✖ 1 min 40 sec

2. ✖ 3 mins 15 sec

3. ✖ 4 mins 35 sec

4. ✔ 2 mins 40 sec

Question Number : 107 Question Id : 54592740709 Question Type : MCQ Option Shuffling : Yes
Correct Marks : 1 Wrong Marks : 0.25

दो कारें एक-दूसरे की ओर बढ़ रही हैं। वे 16 kms दूर हैं और क्रमशः 64 m/s तथा 36 m/s की गति से आगे बढ़ रही हैं। दोनों कार एक दूसरे से कितने समय के बाद मिलती हैं?

Options :

1. ✖ 1 मिनट 40 सेकंड
2. ✖ 3 मिनट 15 सेकंड
3. ✖ 4 मिनट 35 सेकंड
4. ✔ 2 मिनट 40 सेकंड

Question Number : 108 Question Id : 54592740710 Question Type : MCQ Option Shuffling : Yes
Correct Marks : 1 Wrong Marks : 0.25

Reena travels from point X to y in a car and returns From Y to X in a cycle taking 7 hours in the entire journey. If she had used car both ways she would have been able to save 3 hours. What is time taken to cover both ways by cycle?

Options :

1. ✖ 13 hours
2. ✖ 11 hours
3. ✔ 10 hours
4. ✖ 14 hours

Question Number : 108 Question Id : 54592740710 Question Type : MCQ Option Shuffling : Yes
Correct Marks : 1 Wrong Marks : 0.25

रीना एक कार में बिंदु X से y तक जाती है और फिर कुल 7 घंटे लगाते हुए साइकिल से Y से X तक लौटती है। यदि वह दोनों तरफ से कार का इस्तेमाल करती तो वह 3 घंटे बचा सकती थी। साइकिल द्वारा दोनों तरफ से आवृत्त करने के लिए कितना समय लगेगा?

Options :

1. ✖ 13 घंटे
2. ✖ 11 घंटे
3. ✔ 10 घंटे
4. ✖ 14 घंटे

Question Number : 109 Question Id : 54592740711 Question Type : MCQ Option Shuffling : Yes
Correct Marks : 1 Wrong Marks : 0.25

A can do a piece of work in 20 days. He work for 4 days and then B finishes it in 12 days. In what time would A and B together be able to finish the work?

Options :

1. ✓ 8 $\frac{4}{7}$ days
2. ✗ 9 $\frac{2}{3}$ days
3. ✗ 11 $\frac{5}{6}$ days
4. ✗ 6 $\frac{1}{4}$ days

Question Number : 109 Question Id : 54592740711 Question Type : MCQ Option Shuffling : Yes
Correct Marks : 1 Wrong Marks : 0.25

A 20 दिनों में एक काम कर सकता है। वह 4 दिन काम करता है और फिर B उसे 12 दिनों में पूरा करता है। A और B एक साथ कितने समय में काम पूरा कर पाएंगे?

Options :

1. ✓ 8 $\frac{4}{7}$ दिन
2. ✗ 9 $\frac{2}{3}$ दिन
3. ✗ 11 $\frac{5}{6}$ दिन
4. ✗ 6 $\frac{1}{4}$ दिन

Question Number : 110 Question Id : 54592740712 Question Type : MCQ Option Shuffling : Yes
Correct Marks : 1 Wrong Marks : 0.25

Riya can type 12 pages in 4 minutes and Simran can type 4 pages in 8 minutes. In 48 minutes how many pages can they type together?

Options :

1. ✗ 124
2. ✓ 168
3. ✗ 138

4. ✖ 152

Question Number : 110 Question Id : 54592740712 Question Type : MCQ Option Shuffling : Yes

Correct Marks : 1 Wrong Marks : 0.25

रिया 4 मिनट में 12 पेज टाइप कर सकती हैं और सिमरन 8 मिनट में 4 पेज टाइप कर सकती हैं। 48 मिनट में वे एक साथ कितने पेज टाइप कर सकती हैं?

Options :

1. ✖ 124

2. ✔ 168

3. ✖ 138

4. ✖ 152

Question Number : 111 Question Id : 54592740713 Question Type : MCQ Option Shuffling : Yes

Correct Marks : 1 Wrong Marks : 0.25

X and Y can do a work in 6 days and 12 days respectively. X starts the work and Y joins him after 2 days. In how many days can they complete the work together?

Options :

1. ✖ $3 \frac{4}{5}$ days

2. ✖ $1 \frac{6}{7}$ day

3. ✔ $2 \frac{2}{3}$ days

4. ✖ $4 \frac{3}{4}$ days

Question Number : 111 Question Id : 54592740713 Question Type : MCQ Option Shuffling : Yes

Correct Marks : 1 Wrong Marks : 0.25

X और Y क्रमशः 6 दिन और 12 दिनों में एक काम कर सकते हैं। X काम शुरू करता है और Y 2 दिन बाद उससे जुड़ जाता है। वे एक साथ कितने दिनों में काम पूरा कर सकते हैं?

Options :

1. ✖ 3 $\frac{4}{5}$ दिन

2. ✖ 1 $\frac{6}{7}$ दिन

3. ✔ 2 $\frac{2}{3}$ दिन

4. ✖ 4 $\frac{3}{4}$ दिन

Question Number : 112 Question Id : 54592740714 Question Type : MCQ Option Shuffling : Yes
Correct Marks : 1 Wrong Marks : 0.25

Find the approximate length of the diagonal of a cube when its volume is 216 cu cm.

Options :

1. ✖ 9.67 cm

2. ✖ 10.28 cm

3. ✔ 10.39 cm

4. ✖ 11.12 cm

Question Number : 112 Question Id : 54592740714 Question Type : MCQ Option Shuffling : Yes
Correct Marks : 1 Wrong Marks : 0.25

किसी घन के विकर्ण की अनुमानित लंबाई ज्ञात करें, जब इसका आयतन 216 cu cm हो।

Options :

1. ✖ 9.67 cm

2. ✖ 10.28 cm

3. ✔ 10.39 cm

4. ✖ 11.12 cm

Question Number : 113 Question Id : 54592740715 Question Type : MCQ Option Shuffling : Yes
Correct Marks : 1 Wrong Marks : 0.25

What will be the cost of building a fence around a square plot with area equal to 225 sq ft, if the price per foot of building the fence is Rs 32?

Options :

1. ✓ Rs 1920
2. ✗ Rs 2160
3. ✗ Rs 1850
4. ✗ Rs 2260

Question Number : 113 Question Id : 54592740715 Question Type : MCQ Option Shuffling : Yes
Correct Marks : 1 Wrong Marks : 0.25

225 वर्ग फुट के बराबर क्षेत्र वाले एक वर्ग भूखंड के चारों ओर एक बाड़ लगाने की लागत क्या होगी, यदि बाड़ लगाने में प्रति फुट 32 रुपए खर्च आता है?

Options :

1. ✓ 1920 रुपए
2. ✗ 2160 रुपए
3. ✗ 1850 रुपए
4. ✗ 2260 रुपए

Question Number : 114 Question Id : 54592740716 Question Type : MCQ Option Shuffling : Yes
Correct Marks : 1 Wrong Marks : 0.25

The dimensions of a room are 25 feet x 15 feet x 12 feet. What is the cost of white washing the four walls of the room at Rs 6 per square feet if there is one door of dimension 6 feet x 4 feet and 3 windows of dimensions 5 feet x 4 feet?

Options :

1. ✓ Rs 5256
2. ✗ Rs 6348
3. ✗ RS 4398
4. ✗ Rs 5682

Question Number : 114 Question Id : 54592740716 Question Type : MCQ Option Shuffling : Yes
Correct Marks : 1 Wrong Marks : 0.25

एक कमरे की विमा 25 फीट x 15 फीट x 12 फीट है। 6 रुपए प्रति वर्ग फीट की दर से कमरे की चारों दीवारों पर सफेदी लगाने में कितना खर्च आएगा, यदि कमरे में 6 फीट x 4 फीट की विमा का एक दरवाजा है और 5 फीट x 4 फीट की विमा की 3 खिड़कियां हैं?

Options :

1. ✓ 5256 रुपए
2. ✗ 6348 रुपए
3. ✗ 4398 रुपए
4. ✗ 5682 रुपए

Question Number : 115 Question Id : 54592740717 Question Type : MCQ Option Shuffling : Yes

Correct Marks : 1 Wrong Marks : 0.25

From the given table of a company's expenses, which year constitutes most expenditure made on raw materials as compared to their whole expenditure?

Year	Particulars				
	Raw Materials	Salaries	Rent	Interest	Delivery
2014	1250	350	800	400	400
2015	1300	400	850	400	500
2016	1650	500	900	500	600
2017	1500	480	950	500	700
2018	1750	720	1100	500	850

Options :

1. ✗ 2014
2. ✗ 2015
3. ✓ 2016
4. ✗ 2018

Question Number : 115 Question Id : 54592740717 Question Type : MCQ Option Shuffling : Yes

Correct Marks : 1 Wrong Marks : 0.25

दी गई तालिका में कंपनी के खर्चों में किस वर्ष कच्चे माल की खरीदी पर उनके पूरे खर्च की तुलना में सबसे अधिक खर्च किया जाता है?

वर्ष	विशेष				
	कच्चा माल	वेतन	किराया	ब्याज	वितरण
2014	1250	350	800	400	400
2015	1300	400	850	400	500
2016	1650	500	900	500	600
2017	1500	480	950	500	700
2018	1750	720	1100	500	850

Options :

1. ✖ 2014
2. ✖ 2015
3. ✔ 2016
4. ✖ 2018

Question Number : 116 Question Id : 54592740718 Question Type : MCQ Option Shuffling : Yes
Correct Marks : 1 Wrong Marks : 0.25

From the given table by what percentage has the total expenses increased from 2014 to the year 2018 ?

Year	Particulars				
	Raw Materials	Salaries	Rent	Interest	Delivery
2014	1000	300	800	400	400
2015	1800	400	800	500	500
2016	900	450	950	500	500
2017	1200	400	800	500	800
2018	2000	700	1000	600	900

Options :

1. ✖ 55.67%
2. ✖ 65.89%
3. ✖ 40.23%
4. ✔ 79.31%

Question Number : 116 Question Id : 54592740718 Question Type : MCQ Option Shuffling : Yes

Correct Marks : 1 Wrong Marks : 0.25

दी गई तालिका में 2014 से वर्ष 2018 तक कुल खर्च में कितने प्रतिशत की वृद्धि हुई है?

वर्ष	विवरण				
	कच्चा माल	वेतन	किराया	ब्याज	वितरण
2014	1000	300	800	400	400
2015	1800	400	800	500	500
2016	900	450	950	500	500
2017	1200	400	800	500	800
2018	2000	700	1000	600	900

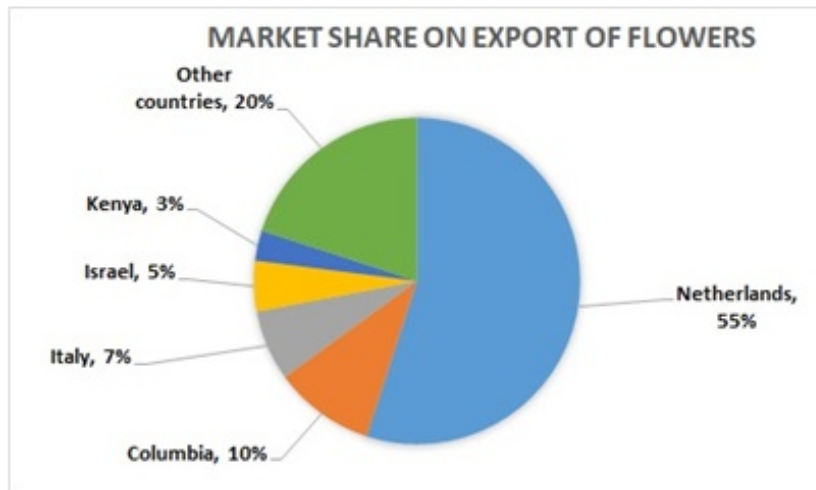
Options :

- ✘ 55.67%
- ✘ 65.89%
- ✘ 40.23%
- ✔ 79.31%

Question Number : 117 Question Id : 54592740719 Question Type : MCQ Option Shuffling : Yes

Correct Marks : 1 Wrong Marks : 0.25

From the given pie chart, if the world exports of flower is 10 billion USD, then what share does Columbia and Kenya earned respectively (in USD)?



Options :

- ✔ 1billion and 300 million

2. * 300 million and 100 million

3. * 30 million and 1 billion

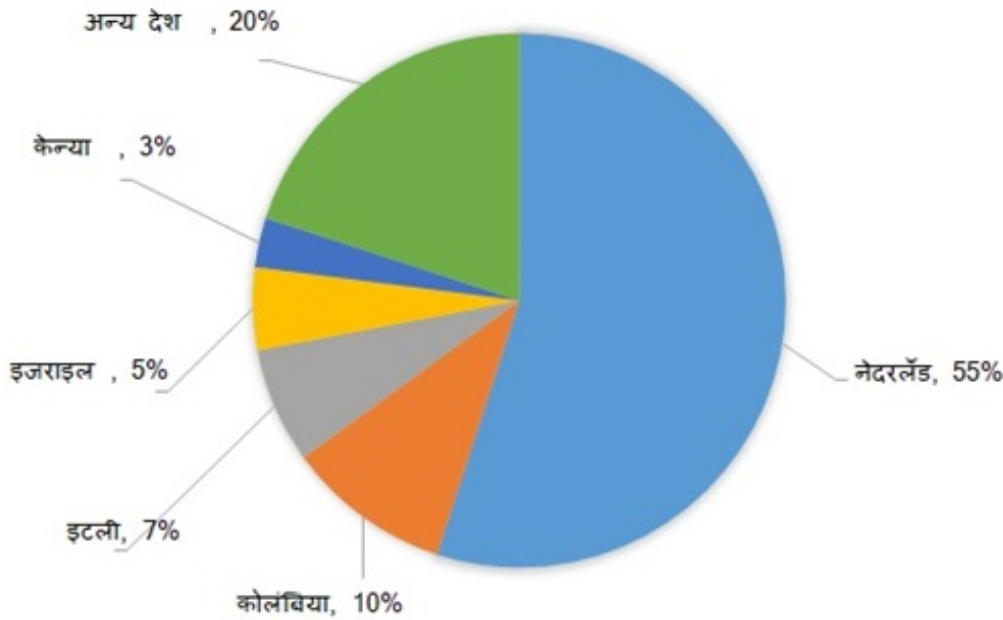
4. * 1 million and 3 billion

Question Number : 117 Question Id : 54592740719 Question Type : MCQ Option Shuffling : Yes

Correct Marks : 1 Wrong Marks : 0.25

दिए गए पाई चार्ट में, यदि फूल का विश्व निर्यात 10 बिलियन USD है, तो क्रमशः कोलंबिया और केन्या (USD में) की तुलना में कितना भाग निर्यात करते हैं?

फूलों के निर्यात पर बाजार हिस्सेदारी



Options :

1. ✓ 1 बिलियन और 300 मिलियन

2. * 300 मिलियन और 100 मिलियन

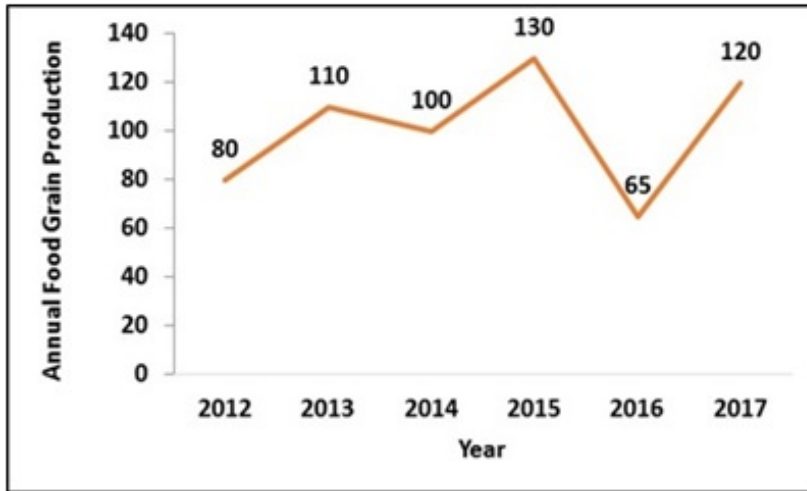
3. * 30 मिलियन और 1 बिलियन

4. * 1 मिलियन और 3 बिलियन

Question Number : 118 Question Id : 54592740720 Question Type : MCQ Option Shuffling : Yes

Correct Marks : 1 Wrong Marks : 0.25

From the given chart by how much was the increase in annual food grain production 2016 to 2017 ?

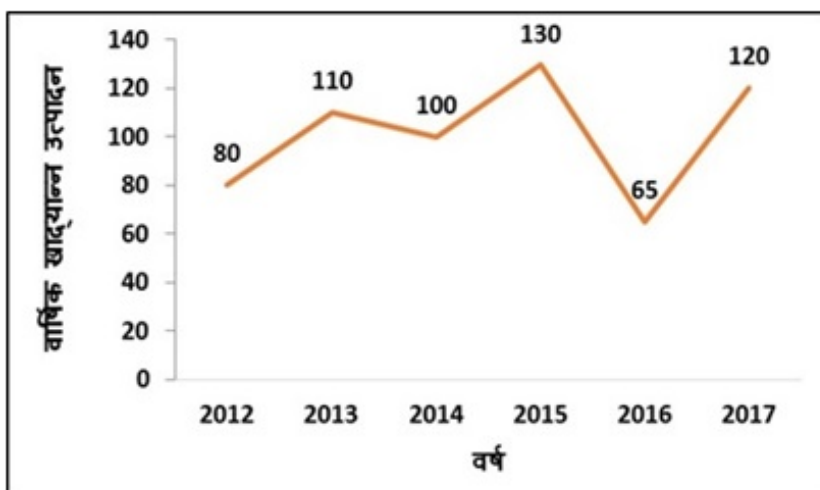


Options :

1. ✘ 78.65%
2. ✔ 84.62%
3. ✘ 89.34%
4. ✘ 48.29%

Question Number : 118 Question Id : 54592740720 Question Type : MCQ Option Shuffling : Yes
Correct Marks : 1 Wrong Marks : 0.25

दिए गए चार्ट में 2016 से 2017 तक वार्षिक खाद्यान्न उत्पादन में कितनी वृद्धि हुई?



Options :

1. ✘ 78.65%

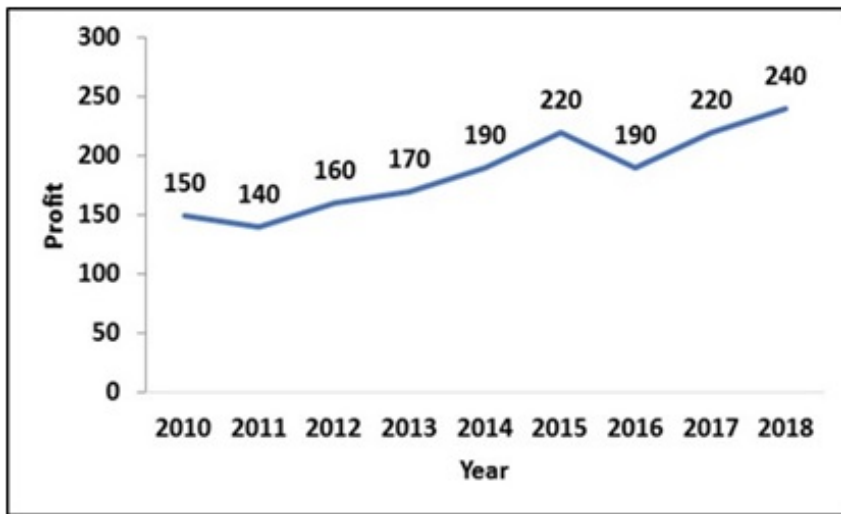
2. ✓ 84.62%

3. ✗ 89.34%

4. ✗ 48.29%

Question Number : 119 Question Id : 54592740721 Question Type : MCQ Option Shuffling : Yes
Correct Marks : 1 Wrong Marks : 0.25

From the given chart from which year on the profit stayed above the average profit of the past 9 years ?



Options :

1. ✗ 2012

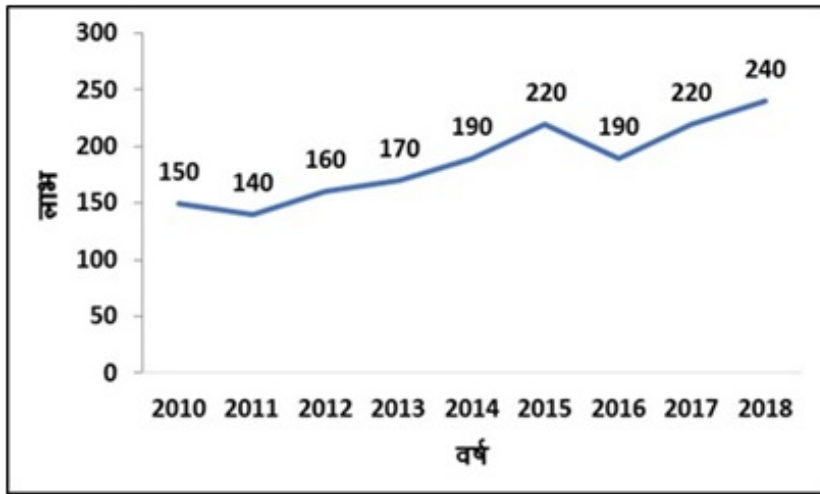
2. ✗ 2017

3. ✗ 2018

4. ✓ 2014

Question Number : 119 Question Id : 54592740721 Question Type : MCQ Option Shuffling : Yes
Correct Marks : 1 Wrong Marks : 0.25

दिए गए चार्ट में किस वर्ष, लाभ पिछले 9 वर्षों के औसत लाभ से ज्यादा रहा?

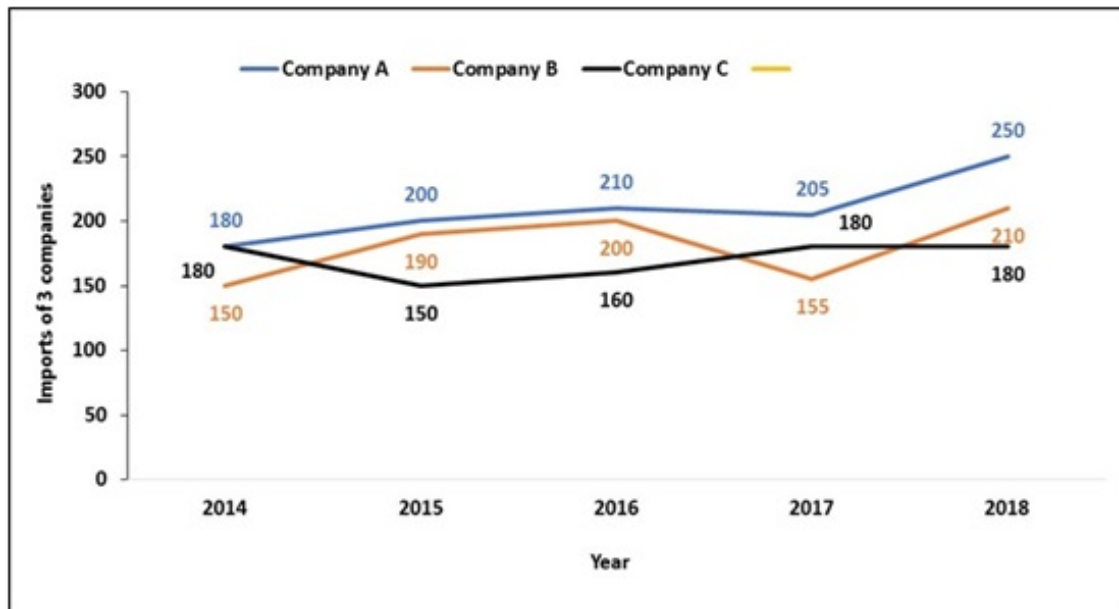


Options :

1. ✘ 2012
2. ✘ 2017
3. ✘ 2018
4. ✔ 2014

Question Number : 120 Question Id : 54592740722 Question Type : MCQ Option Shuffling : Yes
Correct Marks : 1 Wrong Marks : 0.25

The given table shows the imports (in crore rupees) of 3 companies. In the year when imports of Company A and C were same by how much were the imports of Company C greater than the imports of Company B?

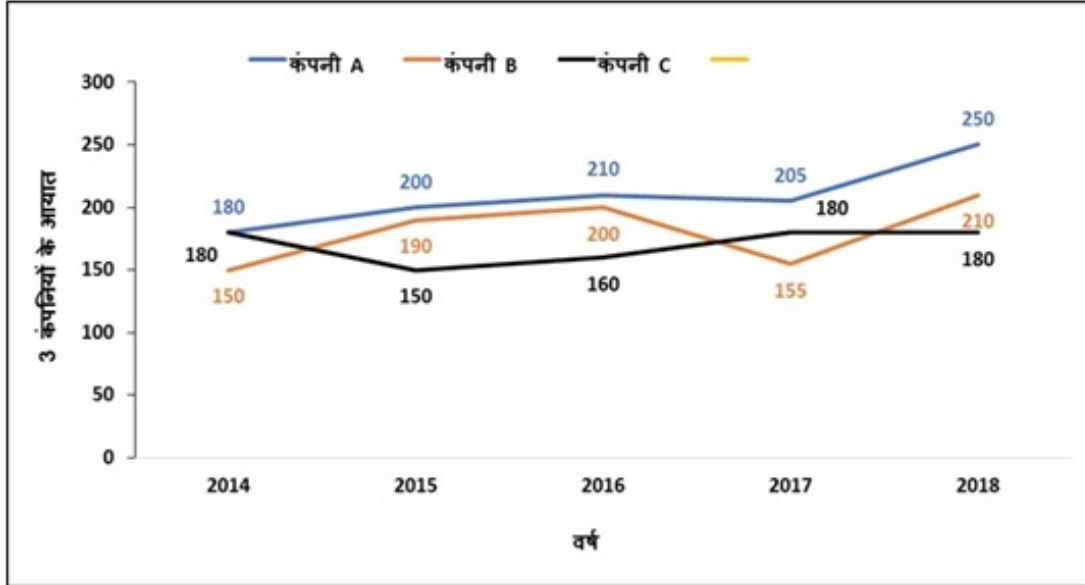


Options :

1. ✘ 33%
2. ✘ 50%
3. ✔ 20%
4. ✘ 25%

Question Number : 120 Question Id : 54592740722 Question Type : MCQ Option Shuffling : Yes
Correct Marks : 1 Wrong Marks : 0.25

दी गई तालिका 3 कंपनियों के आयात (करोड़ रुपए में) को दर्शाती है। उस वर्ष में जब कंपनी A और C के आयात समान थे, कंपनी B के आयात से कंपनी C का आयात कितना अधिक था?



Options :

1. ✘ 33%
2. ✘ 50%
3. ✔ 20%
4. ✘ 25%

General English1

Group Number :	7
Group Id :	5459272017
Group Maximum Duration :	0
Group Minimum Duration :	0
Show Attended Group? :	No
Edit Attended Group? :	No
Break time:	0
Group Marks:	20
Is this Group for Examiner?:	No
Revisit allowed for group Instructions? :	Yes
Maximum Instruction Time:	0
Minimum Instruction Time:	0

General English1

Section Id :	5459272017
Section Number :	1
Section type :	Online
Mandatory or Optional:	Mandatory
Number of Questions:	20
Number of Questions to be attempted:	20
Section Marks:	20

Sub-Section Number:	1
Sub-Section Id:	5459272419
Question Shuffling Allowed :	Yes

Question Number : 121 Question Id : 54592740723 Question Type : MCQ Option Shuffling : Yes
Correct Marks : 1 Wrong Marks : 0.25

In the following statement, one part of the sentence may have an error. Find out which part of the sentence has an error and click the button corresponding to it. If the sentence is free from error, select the "No error" option.

(A) Simran was do / (B) her homework when / (C) her father came./ (D) No error

Options :

1. ✓ A
2. ✗ B
3. ✗ C
4. ✗ D

Question Number : 121 Question Id : 54592740723 Question Type : MCQ Option Shuffling : Yes
Correct Marks : 1 Wrong Marks : 0.25

In the following statement, one part of the sentence may have an error. Find out which part of the sentence has an error and click the button corresponding to it. If the sentence is free from error, select the "No error" option.

(A) Simran was do / (B) her homework when / (C) her father came./ (D) No error

Options :

1. ✓ A

2. ✗ B

3. ✗ C

4. ✗ D

Question Number : 122 Question Id : 54592740724 Question Type : MCQ Option Shuffling : Yes
Correct Marks : 1 Wrong Marks : 0.25

In the following statement, one part of the sentence may have an error. Find out which part of the sentence has an error and click the button corresponding to it. If the sentence is free from error, select the "No error" option.

(A) One of the most/ (B) widely spread bad habit / (C) is drinking alcohol./ (D) No error

Options :

1. ✗ A

2. ✓ B

3. ✗ C

4. ✗ D

Question Number : 122 Question Id : 54592740724 Question Type : MCQ Option Shuffling : Yes
Correct Marks : 1 Wrong Marks : 0.25

In the following statement, one part of the sentence may have an error. Find out which part of the sentence has an error and click the button corresponding to it. If the sentence is free from error, select the "No error" option.

(A) One of the most/ (B) widely spread bad habit / (C) is drinking alcohol./ (D) No error

Options :

1. ✘ A

2. ✔ B

3. ✘ C

4. ✘ D

Question Number : 123 Question Id : 54592740725 Question Type : MCQ Option Shuffling : Yes
Correct Marks : 1 Wrong Marks : 0.25

In the following statement, one part of the sentence may have an error. Find out which part of the sentence has an error and click the button corresponding to it. If the sentence is free from error, select the "No error" option.

(A) Did you saw/ (B) the magic show / (C) conducted by the college./ (D) No error

Options :

1. ✔ A

2. ✘ B

3. ✘ C

4. ✖ D

Question Number : 123 Question Id : 54592740725 Question Type : MCQ Option Shuffling : Yes
Correct Marks : 1 Wrong Marks : 0.25

In the following statement, one part of the sentence may have an error. Find out which part of the sentence has an error and click the button corresponding to it. If the sentence is free from error, select the "No error" option.

(A) Did you saw/ (B) the magic show / (C) conducted by the college./ (D) No error

Options :

1. ✔ A

2. ✖ B

3. ✖ C

4. ✖ D

Question Number : 124 Question Id : 54592740726 Question Type : MCQ Option Shuffling : Yes
Correct Marks : 1 Wrong Marks : 0.25

In the following statement, one part of the sentence may have an error. Find out which part of the sentence has an error and click the button corresponding to it. If the sentence is free from error, select the "No error" option.

(A) Last winter he / (B) went to his cousin's / (C) place and enjoyed a lot./ (D) No error

Options :

1. ✖ A

2. ✖ B

3. ✖ C

4. ✔ D

Question Number : 124 Question Id : 54592740726 Question Type : MCQ Option Shuffling : Yes

Correct Marks : 1 Wrong Marks : 0.25

In the following statement, one part of the sentence may have an error. Find out which part of the sentence has an error and click the button corresponding to it. If the sentence is free from error, select the "No error" option.

(A) Last winter he / (B) went to his cousin's / (C) place and enjoyed a lot./ (D) No error

Options :

1. ✖ A

2. ✖ B

3. ✖ C

4. ✔ D

Question Number : 125 Question Id : 54592740727 Question Type : MCQ Option Shuffling : Yes

Correct Marks : 1 Wrong Marks : 0.25

In the following statement, one part of the sentence may have an error. Find out which part of the sentence has an error and click the button corresponding to it. If the sentence is free from error, select the "No error" option.

(A) There is a / (B) ugly fish in / (C) the pond./ (D) No error

Options :

1. ✔ A

2. ✖ B

3. ✖ C

4. ✖ D

Question Number : 125 Question Id : 54592740727 Question Type : MCQ Option Shuffling : Yes
Correct Marks : 1 Wrong Marks : 0.25

In the following statement, one part of the sentence may have an error. Find out which part of the sentence has an error and click the button corresponding to it. If the sentence is free from error, select the "No error" option.

(A) There is a / (B) ugly fish in / (C) the pond./ (D) No error

Options :

1. ✔ A

2. ✖ B

3. ✖ C

4. ✖ D

Question Number : 126 Question Id : 54592740728 Question Type : MCQ Option Shuffling : Yes
Correct Marks : 1 Wrong Marks : 0.25

Replace the words in the bracket from the set of options given.

Yash (had been played) cricket for five years.

Options :

1. ✖ was played

2. ✖ will be played

3. ✔ had been playing

4. ✖ No correction

Question Number : 126 Question Id : 54592740728 Question Type : MCQ Option Shuffling : Yes
Correct Marks : 1 Wrong Marks : 0.25

Replace the words in the bracket from the set of options given.

Yash (had been played) cricket for five years.

Options :

1. ✖ was played
2. ✖ will be played
3. ✔ had been playing
4. ✖ No correction

Question Number : 127 Question Id : 54592740729 Question Type : MCQ Option Shuffling : Yes
Correct Marks : 1 Wrong Marks : 0.25

Replace the words in the bracket from the set of options given.

Rakesh (had slept) before I came back from the school.

Options :

1. ✖ had sleep
2. ✖ slept
3. ✖ will slept
4. ✔ No correction

Question Number : 127 Question Id : 54592740729 Question Type : MCQ Option Shuffling : Yes
Correct Marks : 1 Wrong Marks : 0.25

Replace the words in the bracket from the set of options given.

Rakesh (had slept) before I came back from the school.

Options :

1. ✖ had sleep
2. ✖ slept
3. ✖ will slept
4. ✔ No correction

Question Number : 128 Question Id : 54592740730 Question Type : MCQ Option Shuffling : Yes
Correct Marks : 1 Wrong Marks : 0.25

Replace the words in the bracket from the set of options given.

We don't use our coal (seller) anymore

Options :

1. ✖ collar
2. ✖ cereal
3. ✔ cellar
4. ✖ No correction

Question Number : 128 Question Id : 54592740730 Question Type : MCQ Option Shuffling : Yes
Correct Marks : 1 Wrong Marks : 0.25

Replace the words in the bracket from the set of options given.

We don't use our coal (seller) anymore

Options :

1. ✖ collar
2. ✖ cereal
3. ✔ cellar
4. ✖ No correction

Question Number : 129 Question Id : 54592740731 Question Type : MCQ Option Shuffling : Yes

Correct Marks : 1 Wrong Marks : 0.25

Replace the words in the bracket from the set of options given.

I (learn) Russian for three years.

Options :

1. ✓ have learnt
2. ✗ will learnt
3. ✗ had learned
4. ✗ No correction

Question Number : 129 Question Id : 54592740731 Question Type : MCQ Option Shuffling : Yes

Correct Marks : 1 Wrong Marks : 0.25

Replace the words in the bracket from the set of options given.

I (learn) Russian for three years.

Options :

1. ✓ have learnt
2. ✗ will learnt
3. ✗ had learned
4. ✗ No correction

Question Number : 130 Question Id : 54592740732 Question Type : MCQ Option Shuffling : Yes

Correct Marks : 1 Wrong Marks : 0.25

Replace the words in the bracket from the set of options given.

The main concept (of his speech) was women empowerment.

Options :

1. ✗ of his speaking
2. ✗ at his speech

3. ✖ when he speak

4. ✔ No correction

Question Number : 130 Question Id : 54592740732 Question Type : MCQ Option Shuffling : Yes

Correct Marks : 1 Wrong Marks : 0.25

Replace the words in the bracket from the set of options given.

The main concept (of his speech) was women empowerment.

Options :

1. ✖ of his speaking

2. ✖ at his speech

3. ✖ when he speak

4. ✔ No correction

Question Number : 131 Question Id : 54592740733 Question Type : MCQ Option Shuffling : Yes

Correct Marks : 1 Wrong Marks : 0.25

Fill in the blanks with appropriate word.

The employer was very _____ about the health of her employees.

Options :

1. ✖ sanguine

2. ✖ scurrilous

3. ✔ solicitous

4. ✖ servile

Question Number : 131 Question Id : 54592740733 Question Type : MCQ Option Shuffling : Yes

Correct Marks : 1 Wrong Marks : 0.25

Fill in the blanks with appropriate word.

The employer was very _____ about the health of her employees.

Options :

1. ✘ sanguine
2. ✘ scurrilous
3. ✔ solicitous
4. ✘ servile

Question Number : 132 Question Id : 54592740734 Question Type : MCQ Option Shuffling : Yes
Correct Marks : 1 Wrong Marks : 0.25

Fill in the blanks with appropriate word.

_____ trying hard, she failed miserably.

Options :

1. ✘ Since
2. ✔ In spite of
3. ✘ Although
4. ✘ However

Question Number : 132 Question Id : 54592740734 Question Type : MCQ Option Shuffling : Yes
Correct Marks : 1 Wrong Marks : 0.25

Fill in the blanks with appropriate word.

_____ trying hard, she failed miserably.

Options :

1. ✘ Since

2. ✓ In spite of

3. ✗ Although

4. ✗ However

Question Number : 133 Question Id : 54592740735 Question Type : MCQ Option Shuffling : Yes
Correct Marks : 1 Wrong Marks : 0.25

Fill in the blanks with appropriate word.

Jasmine used blue ribbons to _____ the coppery tones in her hair.

Options :

1. ✓ accentuate

2. ✗ absolve

3. ✗ aerate

4. ✗ aesthete

Question Number : 133 Question Id : 54592740735 Question Type : MCQ Option Shuffling : Yes
Correct Marks : 1 Wrong Marks : 0.25

Fill in the blanks with appropriate word.

Jasmine used blue ribbons to _____ the coppery tones in her hair.

Options :

1. ✓ accentuate

2. ✗ absolve

3. ✗ aerate

4. ✗ aesthete

Question Number : 134 Question Id : 54592740736 Question Type : MCQ Option Shuffling : Yes
Correct Marks : 1 Wrong Marks : 0.25

Fill in the blanks with appropriate word.

The _____ toddler refused to leave the playhouse.

Options :

1. ✖ corrosive
2. ✔ defiant
3. ✖ condone
4. ✖ conduit

Question Number : 134 Question Id : 54592740736 Question Type : MCQ Option Shuffling : Yes

Correct Marks : 1 Wrong Marks : 0.25

Fill in the blanks with appropriate word.

The _____ toddler refused to leave the playhouse.

Options :

1. ✖ corrosive
2. ✔ defiant
3. ✖ condone
4. ✖ conduit

Question Number : 135 Question Id : 54592740737 Question Type : MCQ Option Shuffling : Yes

Correct Marks : 1 Wrong Marks : 0.25

Fill in the blanks with appropriate word.

The arrogant writer did not hide his _____ for his uneducated dinner companion.

Options :

1. ✖ discern
2. ✔ disdain

3. ✖ diffident

4. ✖ derelict

Question Number : 135 Question Id : 54592740737 Question Type : MCQ Option Shuffling : Yes
Correct Marks : 1 Wrong Marks : 0.25

Fill in the blanks with appropriate word.

The arrogant writer did not hide his _____ for his uneducated dinner companion.

Options :

1. ✖ discern

2. ✔ disdain

3. ✖ diffident

4. ✖ derelict

Question Number : 136 Question Id : 54592740738 Question Type : MCQ Option Shuffling : Yes
Correct Marks : 1 Wrong Marks : 0.25

Fill in the blanks with appropriate word.

The _____ host warmly greeted his many guests.

Options :

1. ✖ garish

2. ✔ genial

3. ✖ grandiose

4. ✖ gruff

Question Number : 136 Question Id : 54592740738 Question Type : MCQ Option Shuffling : Yes
Correct Marks : 1 Wrong Marks : 0.25

Fill in the blanks with appropriate word.

The _____ host warmly greeted his many guests.

Options :

1. ✖ garish
2. ✔ genial
3. ✖ grandiose
4. ✖ gruff

Question Number : 137 Question Id : 54592740739 Question Type : MCQ Option Shuffling : Yes
Correct Marks : 1 Wrong Marks : 0.25

Fill in the blanks with appropriate word.

The policeman was publicly _____ for his bravery.

Options :

1. ✖ extant
2. ✖ flagrant
3. ✔ exalted
4. ✖ gruffed

Question Number : 137 Question Id : 54592740739 Question Type : MCQ Option Shuffling : Yes
Correct Marks : 1 Wrong Marks : 0.25

Fill in the blanks with appropriate word.

The policeman was publicly _____ for his bravery.

Options :

1. ✖ extant
2. ✖ flagrant

3. ✓ exalted

4. ✗ gruffed

Question Number : 138 Question Id : 54592740740 Question Type : MCQ Option Shuffling : Yes
Correct Marks : 1 Wrong Marks : 0.25

Fill in the blanks with appropriate word.

If Seema is late, we will go _____ her.

Options :

1. ✓ without

2. ✗ until

3. ✗ unless

4. ✗ of

Question Number : 138 Question Id : 54592740740 Question Type : MCQ Option Shuffling : Yes
Correct Marks : 1 Wrong Marks : 0.25

Fill in the blanks with appropriate word.

If Seema is late, we will go _____ her.

Options :

1. ✓ without

2. ✗ until

3. ✗ unless

4. ✗ of

Question Number : 139 Question Id : 54592740741 Question Type : MCQ Option Shuffling : Yes
Correct Marks : 1 Wrong Marks : 0.25

The question below consist of a set of labelled sentences. Out of four options given, select the most logical order of the sentences which form a paragraph.

Yashwant Sinha's budget has been presented against the backdrop of a sharp fall in the government's finances.

P : Accordingly the basic purpose of the budget is to stabilise the fiscal health of the country.

Q : A stimulus has also been provided to promote and revive industrial and overall growth.

R : Towards this end, Sinha has rationalised the structure of customs and excise duties.

S : He has also announced tax initiatives to facilitate corporate mergers and de-mergers.

It is only hoped that these measures will help rejuvenate the country's flagging economy.

Options :

1. ✓ PSQR

2. ✗ RSQP

3. ✗ QSRP

4. ✗ SRQP

Question Number : 139 Question Id : 54592740741 Question Type : MCQ Option Shuffling : Yes

Correct Marks : 1 Wrong Marks : 0.25

The question below consist of a set of labelled sentences. Out of four options given, select the most logical order of the sentences which form a paragraph.

Yashwant Sinha's budget has been presented against the backdrop of a sharp fall in the government's finances.

P : Accordingly the basic purpose of the budget is to stabilise the fiscal health of the country.

Q : A stimulus has also been provided to promote and revive industrial and overall growth.

R : Towards this end, Sinha has rationalised the structure of customs and excise duties.

S : He has also announced tax initiatives to facilitate corporate mergers and de-mergers.

It is only hoped that these measures will help rejuvenate the country's flagging economy.

Options :

1. ✓ PSQR

2. ✗ RSQP

3. ✗ QSRP

4. ✗ SRQP

Question Number : 140 Question Id : 54592740742 Question Type : MCQ Option Shuffling : Yes
Correct Marks : 1 Wrong Marks : 0.25

The questions below consist of a set of labelled parts of a sentence. Out of four options given, select the most logical order of the parts which form a coherent sentence.

Growth and evolution of the

P : change in the economic environment

Q : and legislative control over it

R : is largely a by-product of the

S : corporate sector in India

Options :

1. ✖ QRPS

2. ✖ RQPS

3. ✔ SRPQ

4. ✖ PSQR

Question Number : 140 Question Id : 54592740742 Question Type : MCQ Option Shuffling : Yes

Correct Marks : 1 Wrong Marks : 0.25

The questions below consist of a set of labelled parts of a sentence. Out of four options given, select the most logical order of the parts which form a coherent sentence.

Growth and evolution of the

P : change in the economic environment

Q : and legislative control over it

R : is largely a by-product of the

S : corporate sector in India

Options :

1. ✖ QRPS

2. ✖ RQPS

3. ✔ SRPQ

4. ✖ PSQR

General English2

Group Number :	8
Group Id :	5459272018
Group Maximum Duration :	0
Group Minimum Duration :	0
Show Attended Group? :	No
Edit Attended Group? :	No
Break time:	0
Group Marks:	20
Is this Group for Examiner?:	No
Revisit allowed for group Instructions? :	Yes
Maximum Instruction Time:	0
Minimum Instruction Time:	0

General English2

Section Id :	5459272018
Section Number :	1
Section type :	Online
Mandatory or Optional:	Mandatory
Number of Questions:	16
Number of Questions to be attempted:	16
Section Marks:	20

Sub-Section Number:	1
Sub-Section Id:	5459272420
Question Shuffling Allowed :	Yes

Question Number : 141 Question Id : 54592740743 Question Type : MCQ Option Shuffling : Yes
Correct Marks : 1 Wrong Marks : 0.25

The questions below consist of a set of labelled parts of a sentence. Out of four options given, select the most logical order of the parts which form a coherent sentence.

Internal consistency in the

P : areas do not work at cross-purpose

Q : various functional plans and policies

R : but operate in harmony

S : ensures that the different functional

Options :

1. ✖ PSQR

2. ✔ QSPR

3. ✖ RSQP

4. ✖ SPQR

Question Number : 141 Question Id : 54592740743 Question Type : MCQ Option Shuffling : Yes

Correct Marks : 1 Wrong Marks : 0.25

The questions below consist of a set of labelled parts of a sentence. Out of four options given, select the most logical order of the parts which form a coherent sentence.

Internal consistency in the

P : areas do not work at cross-purpose

Q : various functional plans and policies

R : but operate in harmony

S : ensures that the different functional

Options :

1. ✖ PSQR

2. ✓ QSPR

3. ✗ RSQP

4. ✗ SPQR

Question Number : 142 Question Id : 54592740744 Question Type : MCQ Option Shuffling : Yes
Correct Marks : 1 Wrong Marks : 0.25

Out of the four alternatives, choose the word which best expresses the MEANING of the given word.

Quell

Options :

1. ✗ Strange

2. ✓ Reduce

3. ✗ Agitate

4. ✗ Anxious

Question Number : 142 Question Id : 54592740744 Question Type : MCQ Option Shuffling : Yes
Correct Marks : 1 Wrong Marks : 0.25

Out of the four alternatives, choose the word which best expresses the MEANING of the given word.

Quell

Options :

1. ✗ Strange

2. ✓ Reduce

3. ✗ Agitate

4. ✗ Anxious

Question Number : 143 Question Id : 54592740745 Question Type : MCQ Option Shuffling : Yes
Correct Marks : 1 Wrong Marks : 0.25

Out of the four alternatives, choose the word which best expresses the MEANING of the given word.

Tumultuous

Options :

1. ✖ Bold
2. ✖ Harmonious
3. ✔ Violent
4. ✖ Crowd

Question Number : 143 Question Id : 54592740745 Question Type : MCQ Option Shuffling : Yes
Correct Marks : 1 Wrong Marks : 0.25

Out of the four alternatives, choose the word which best expresses the MEANING of the given word.

Tumultuous

Options :

1. ✖ Bold
2. ✖ Harmonious
3. ✔ Violent
4. ✖ Crowd

Question Number : 144 Question Id : 54592740746 Question Type : MCQ Option Shuffling : Yes
Correct Marks : 1 Wrong Marks : 0.25

Out of the four alternatives, choose the word which is OPPOSITE in meaning to the given word.

Admonish

Options :

1. ✔ Applaud

2. ✖ Reprove

3. ✖ Harmony

4. ✖ Relieve

Question Number : 144 Question Id : 54592740746 Question Type : MCQ Option Shuffling : Yes
Correct Marks : 1 Wrong Marks : 0.25

Out of the four alternatives, choose the word which is OPPOSITE in meaning to the given word.

Admonish

Options :

1. ✔ Applaud

2. ✖ Reprove

3. ✖ Harmony

4. ✖ Relieve

Question Number : 145 Question Id : 54592740747 Question Type : MCQ Option Shuffling : Yes
Correct Marks : 1 Wrong Marks : 0.25

Out of the four alternatives, choose the word which is OPPOSITE in meaning to the given word.

Insinuate

Options :

1. ✖ Hint

2. ✖ Doubtful

3. ✔ Conceal

4. ✖ Unbiased

Question Number : 145 Question Id : 54592740747 Question Type : MCQ Option Shuffling : Yes
Correct Marks : 1 Wrong Marks : 0.25

Out of the four alternatives, choose the word which is OPPOSITE in meaning to the given word.

Insinuate

Options :

1. ✖ Hint
2. ✖ Doubtful
3. ✔ Conceal
4. ✖ Unbiased

Question Number : 146 Question Id : 54592740748 Question Type : MCQ Option Shuffling : Yes
Correct Marks : 1 Wrong Marks : 0.25

Out of the four alternatives, choose the word which is OPPOSITE in meaning to the given word.

Placid

Options :

1. ✔ Stormy
2. ✖ Calm
3. ✖ Flatter
4. ✖ Arrogant

Question Number : 146 Question Id : 54592740748 Question Type : MCQ Option Shuffling : Yes
Correct Marks : 1 Wrong Marks : 0.25

Out of the four alternatives, choose the word which is OPPOSITE in meaning to the given word.

Placid

Options :

1. ✓ Stormy
2. ✗ Calm
3. ✗ Flatter
4. ✗ Arrogant

Question Number : 147 Question Id : 54592740749 Question Type : MCQ Option Shuffling : Yes
Correct Marks : 1 Wrong Marks : 0.25

Four words are given, out of which only one word is spelt correctly. Choose the correctly spelt word.

Options :

1. ✗ Circumlotion
2. ✗ Circumelocation
3. ✗ Cuircumlocusion
4. ✓ Circumlocution

Question Number : 147 Question Id : 54592740749 Question Type : MCQ Option Shuffling : Yes
Correct Marks : 1 Wrong Marks : 0.25

Four words are given, out of which only one word is spelt correctly. Choose the correctly spelt word.

Options :

1. ✗ Circumlotion
2. ✗ Circumelocation
3. ✗ Cuircumlocusion
4. ✓ Circumlocution

Question Number : 148 Question Id : 54592740750 Question Type : MCQ Option Shuffling : Yes
Correct Marks : 1 Wrong Marks : 0.25

Four words are given, out of which only one word is spelt correctly. Choose the correctly spelt word.

Options :

1. ✓ Solicitous
2. ✗ Solicisious
3. ✗ Solctious
4. ✗ Solictious

Question Number : 148 Question Id : 54592740750 Question Type : MCQ Option Shuffling : Yes
Correct Marks : 1 Wrong Marks : 0.25

Four words are given, out of which only one word is spelt correctly. Choose the correctly spelt word.

Options :

1. ✓ Solicitous
2. ✗ Solicisious
3. ✗ Solctious
4. ✗ Solictious

Question Number : 149 Question Id : 54592740751 Question Type : MCQ Option Shuffling : Yes
Correct Marks : 1 Wrong Marks : 0.25

Four words are given, out of which only one word is spelt correctly. Choose the correctly spelt word.

Options :

1. ✗ Pungasious
2. ✓ Pugnacious
3. ✗ Pungicous
4. ✗ Pugnatiuous

Question Number : 149 Question Id : 54592740751 Question Type : MCQ Option Shuffling : Yes
Correct Marks : 1 Wrong Marks : 0.25

Four words are given, out of which only one word is spelt correctly. Choose the correctly spelt word.

Options :

1. ✖ Pungasious

2. ✔ Pugnacious

3. ✖ Pungicous

4. ✖ Pugnatiuous

Question Number : 150 Question Id : 54592740752 Question Type : MCQ Option Shuffling : Yes
Correct Marks : 1 Wrong Marks : 0.25

What does the following idiom mean?

Let the cat out of the bag

Options :

1. ✖ To solve two problems at once.

2. ✔ To accidentally reveal a secret

3. ✖ To want something very badly

4. ✖ To make a situation worse

Question Number : 150 Question Id : 54592740752 Question Type : MCQ Option Shuffling : Yes
Correct Marks : 1 Wrong Marks : 0.25

What does the following idiom mean?

Let the cat out of the bag

Options :

1. ✖ To solve two problems at once.

2. ✔ To accidentally reveal a secret

3. ✖ To want something very badly

4. ✖ To make a situation worse

Question Number : 151 Question Id : 54592740753 Question Type : MCQ Option Shuffling : Yes
Correct Marks : 1 Wrong Marks : 0.25

What does the following idiom mean?

Nip in the bud

Options :

1. ✖ To abuse someone
2. ✖ To remain faithful to the cause
3. ✔ Destroy in the early stage
4. ✖ To reveal a secret

Question Number : 151 Question Id : 54592740753 Question Type : MCQ Option Shuffling : Yes
Correct Marks : 1 Wrong Marks : 0.25

What does the following idiom mean?

Nip in the bud

Options :

1. ✖ To abuse someone
2. ✖ To remain faithful to the cause
3. ✔ Destroy in the early stage
4. ✖ To reveal a secret

Question Number : 152 Question Id : 54592740754 Question Type : MCQ Option Shuffling : Yes
Correct Marks : 1 Wrong Marks : 0.25

What does the following idiom mean?

To sit on the fence

Options :

1. ✔ To remain neutral
2. ✖ To be in low spirits
3. ✖ To be angry

4. ✖ To be patient

Question Number : 152 Question Id : 54592740754 Question Type : MCQ Option Shuffling : Yes
Correct Marks : 1 Wrong Marks : 0.25

What does the following idiom mean?

To sit on the fence

Options :

1. ✔ To remain neutral
2. ✖ To be in low spirits
3. ✖ To be angry
4. ✖ To be patient

Question Number : 153 Question Id : 54592740755 Question Type : MCQ Option Shuffling : Yes
Correct Marks : 1 Wrong Marks : 0.25

In the following question, out of four alternatives, select the alternative which is the best substitute of the words/sentences.

A patient with imaginary symptoms and ailments

Options :

1. ✖ Impregnable
2. ✖ Fastidious
3. ✔ Hypochondriac
4. ✖ Mercenary

Question Number : 153 Question Id : 54592740755 Question Type : MCQ Option Shuffling : Yes
Correct Marks : 1 Wrong Marks : 0.25

In the following question, out of four alternatives, select the alternative which is the best substitute of the words/sentences.

A patient with imaginary symptoms and ailments

Options :

1. ✖ Impregnable
2. ✖ Fastidious
3. ✔ Hypochondriac
4. ✖ Mercenary

Question Number : 154 Question Id : 54592740756 Question Type : MCQ Option Shuffling : Yes

Correct Marks : 1 Wrong Marks : 0.25

In the following question, out of four alternatives, select the alternative which is the best substitute of the words/sentences.

A large number of fish swimming together

Options :

1. ✖ Flotilla
2. ✖ Posse
3. ✖ Horde
4. ✔ Shoal

Question Number : 154 Question Id : 54592740756 Question Type : MCQ Option Shuffling : Yes

Correct Marks : 1 Wrong Marks : 0.25

In the following question, out of four alternatives, select the alternative which is the best substitute of the words/sentences.

A large number of fish swimming together

Options :

1. ✖ Flotilla
2. ✖ Posse
3. ✖ Horde
4. ✔ Shoal

Question Number : 155 Question Id : 54592740757 Question Type : MCQ Option Shuffling : Yes

Correct Marks : 1 Wrong Marks : 0.25

In the following question, out of four alternatives, select the alternative which is the best substitute of the words/sentences.

The scientific study of the structure and diseases of teeth

Options :

1. ✔ Odontology
2. ✖ Genealogy
3. ✖ Dactylogy
4. ✖ Petrology

Question Number : 155 Question Id : 54592740757 Question Type : MCQ Option Shuffling : Yes

Correct Marks : 1 Wrong Marks : 0.25

In the following question, out of four alternatives, select the alternative which is the best substitute of the words/sentences.

The scientific study of the structure and diseases of teeth

Options :

1. ✓ Odontology
2. ✗ Genealogy
3. ✗ Dactylology
4. ✗ Petrology

Sub-Section Number:	2
Sub-Section Id:	5459272421
Question Shuffling Allowed :	Yes

Question Id : 54592740758 Question Type : COMPREHENSION Sub Question Shuffling Allowed : Yes Group Comprehension Questions : No

Question Numbers : (156 to 160)

Question Label : Comprehension

Read the following passage and answer the question.

The beautiful, brilliant Butterflies of the Meadow had many cousins living in the forest, most of whom were Night Moths. They also were very beautiful creatures, but they dressed in duller colors and did not have slender waists. Some of the Butterflies, you know, wear whole gowns of black and yellow, others have stripes of black and white, while some have clear yellow with only a bit of black trimming the edges of the wings.

The Moths usually wear brown and have it brightened with touches of buff or dull blue. If they do wear bright colors, it is only on the back pair of wings, and when the Moth alights, he slides his front pair of wings over these and covers all the brightness. They do not rest with their wings folded over their heads like the Butterflies, but leave them flat. All the day long, when the sun is shining, the Moths have to rest on trees and dead leaves. If they were dressed in yellow or red, any passing bird would see them, and there is no telling what might happen. As it is, their brown wings are so nearly the color of dead leaves or bark that you might often look right at them without seeing them. Yet even among Moths there are some more brightly colored than others, and when you find part of the family quietly dressed you can know it is because they have to lay the eggs. Moths are safer in dull colors, and the egg-layers should always be the safest of all. If anything happened to them, you know, there would be no Caterpillar babies.

Sub questions

Question Number : 156 Question Id : 54592740759 Question Type : MCQ Option Shuffling : Yes

Correct Marks : 1 Wrong Marks : 0.25

Moths who are about to lay the eggs are _____.

Options :

1. ✖ dressed in dull colours
2. ✖ dressed in black
3. ✖ dressed in brown
4. ✔ quietly dressed

Question Number : 157 Question Id : 54592740760 Question Type : MCQ Option Shuffling : Yes

Correct Marks : 1 Wrong Marks : 0.25

_____ were the cousins of butterflies.

Options :

1. ✖ Caterpillar
2. ✔ Night Moths
3. ✖ Flies
4. ✖ Mosquitoes

Question Number : 158 Question Id : 54592740761 Question Type : MCQ Option Shuffling : Yes

Correct Marks : 1 Wrong Marks : 0.25

How do the moths rest?

Options :

1. ✖ By folding their wings over their heads
2. ✖ By flying in the sky with the help of the wings
3. ✖ By crossing the wings
4. ✔ By leaving the wings flat

Question Number : 159 Question Id : 54592740762 Question Type : MCQ Option Shuffling : Yes

Correct Marks : 1 Wrong Marks : 0.25

Where do the moths rest during the day?

Options :

1. ✔ On trees and dead leaves

2. ✖ Near the lake
3. ✖ On the flowers
4. ✖ In the garden

Question Number : 160 Question Id : 54592740763 Question Type : MCQ Option Shuffling : Yes
Correct Marks : 1 Wrong Marks : 0.25

What is the meaning of the word 'slender' as used in the passage?

Options :

1. ✔ thin
2. ✖ fat
3. ✖ ugly
4. ✖ pretty

Question Id : 54592740758 Question Type : COMPREHENSION Sub Question Shuffling Allowed : Yes Group Comprehension Questions : No
Question Numbers : (156 to 160)

Question Label : Comprehension

Read the following passage and answer the questions.

The beautiful, brilliant Butterflies of the Meadow had many cousins living in the forest, most of whom were Night Moths. They also were very beautiful creatures, but they dressed in duller colors and did not have slender waists. Some of the Butterflies, you know, wear whole gowns of black and yellow, others have stripes of black and white, while some have clear yellow with only a bit of black trimming the edges of the wings.

The Moths usually wear brown and have it brightened with touches of buff or dull blue. If they do wear bright colors, it is only on the back pair of wings, and when the Moth alights, he slides his front pair of wings over these and covers all the brightness. They do not rest with their wings folded over their heads like the Butterflies, but leave them flat. All the day long, when the sun is shining, the Moths have to rest on trees and dead leaves. If they were dressed in yellow or red, any passing bird would see them, and there is no telling what might happen. As it is, their brown wings are so nearly the color of dead leaves or bark that you might often look right at them without seeing them. Yet even among Moths there are some more brightly colored than others, and when you find part of the family quietly dressed you can know it is because they have to lay the eggs. Moths are safer in dull colors, and the egg-layers should always be the safest of all. If anything happened to them, you know, there would be no Caterpillar babies.

Sub questions

Question Number : 156 Question Id : 54592740759 Question Type : MCQ Option Shuffling : Yes
Correct Marks : 1 Wrong Marks : 0.25

Moths who are about to lay the eggs are _____.

Options :

1. ✖ dressed in dull colours
2. ✖ dressed in black
3. ✖ dressed in brown
4. ✔ quietly dressed

Question Number : 157 Question Id : 54592740760 Question Type : MCQ Option Shuffling : Yes
Correct Marks : 1 Wrong Marks : 0.25

_____ were the cousins of butterflies.

Options :

1. ✖ Caterpillar
2. ✔ Night Moths
3. ✖ Flies
4. ✖ Mosquitoes

Question Number : 158 Question Id : 54592740761 Question Type : MCQ Option Shuffling : Yes
Correct Marks : 1 Wrong Marks : 0.25

How do the moths rest?

Options :

1. ✖ By folding their wings over their heads
2. ✖ By flying in the sky with the help of the wings
3. ✖ By crossing the wings
4. ✔ By leaving the wings flat

Question Number : 159 Question Id : 54592740762 Question Type : MCQ Option Shuffling : Yes
Correct Marks : 1 Wrong Marks : 0.25

Where do the moths rest during the day?

Options :

1. ✓ On trees and dead leaves
2. ✗ Near the lake
3. ✗ On the flowers
4. ✗ In the garden

Question Number : 160 Question Id : 54592740763 Question Type : MCQ Option Shuffling : Yes
Correct Marks : 1 Wrong Marks : 0.25

What is the meaning of the word 'slender' as used in the passage?

Options :

1. ✓ thin
2. ✗ fat
3. ✗ ugly
4. ✗ pretty

General Hindi1

Group Number :	9
Group Id :	5459272019
Group Maximum Duration :	0
Group Minimum Duration :	0
Show Attended Group? :	No
Edit Attended Group? :	No
Break time:	0
Group Marks:	20
Is this Group for Examiner?:	No
Revisit allowed for group Instructions? :	Yes
Maximum Instruction Time:	0
Minimum Instruction Time:	0

Section Id :	5459272019
Section Number :	1
Section type :	Online
Mandatory or Optional:	Mandatory
Number of Questions:	20
Number of Questions to be attempted:	20
Section Marks:	20

Sub-Section Number:	1
Sub-Section Id:	5459272422
Question Shuffling Allowed :	Yes

Question Number : 161 Question Id : 54592740764 Question Type : MCQ Option Shuffling : Yes
Correct Marks : 1 Wrong Marks : 0.25

निम्नलिखित प्रश्न में, चार विकल्पों में से, उस विकल्प का चयन करें जो दिए गए शब्द के लिए सही अव्ययीभाव समास के विग्रह का विकल्प हो।

बाकायदा

Options :

1. * कायदे के अन्दर
2. ✓ कायदे के अनुसार
3. * कायदे पर
4. * कायदे अनुसार से

Question Number : 161 Question Id : 54592740764 Question Type : MCQ Option Shuffling : Yes
Correct Marks : 1 Wrong Marks : 0.25

निम्नलिखित प्रश्न में, चार विकल्पों में से, उस विकल्प का चयन करें जो दिए गए शब्द के लिए सही अव्ययीभाव समास के विग्रह का विकल्प हो।

बाकायदा

Options :

1. * कायदे के अन्दर
2. ✓ कायदे के अनुसार

3. * कायदे पर

4. * कायदे अनुसार से

Question Number : 162 Question Id : 54592740765 Question Type : MCQ Option Shuffling : Yes

Correct Marks : 1 Wrong Marks : 0.25

निम्नलिखित प्रश्न में, चार विकल्पों में से, उस विकल्प का चयन करें जो दिए गए शब्द का सही तत्सम रूप वाला विकल्प हो।

सितार

Options :

1. * सतार

2. ✓ सप्तवार

3. * श्यामल

4. * साँकल

Question Number : 162 Question Id : 54592740765 Question Type : MCQ Option Shuffling : Yes

Correct Marks : 1 Wrong Marks : 0.25

निम्नलिखित प्रश्न में, चार विकल्पों में से, उस विकल्प का चयन करें जो दिए गए शब्द का सही तत्सम रूप वाला विकल्प हो।

सितार

Options :

1. * सतार

2. ✓ सप्तवार

3. * श्यामल

4. * साँकल

Question Number : 163 Question Id : 54592740766 Question Type : MCQ Option Shuffling : Yes

Correct Marks : 1 Wrong Marks : 0.25

निम्नलिखित प्रश्न में, चार विकल्पों में से, उस विकल्प का चयन करें जो देशज शब्द का सही विकल्प हो।

Options :

1. * अफसर
2. * समोसा
3. ✓ मूँगा
4. * फैसला

Question Number : 163 Question Id : 54592740766 Question Type : MCQ Option Shuffling : Yes
Correct Marks : 1 Wrong Marks : 0.25

निम्नलिखित प्रश्न में, चार विकल्पों में से, उस विकल्प का चयन करें जो देशज शब्द का सही विकल्प हो।

Options :

1. * अफसर
2. * समोसा
3. ✓ मूँगा
4. * फैसला

Question Number : 164 Question Id : 54592740767 Question Type : MCQ Option Shuffling : Yes
Correct Marks : 1 Wrong Marks : 0.25

निम्नलिखित प्रश्न में, चार विकल्पों में से, उस विकल्प का चयन करें जो कोष्ठक में दिए गए शब्द के अनुसार सर्वनाम के भेद का सही विकल्प हो।

ऐसा लगा कि (कोई) आया है।

Options :

1. * निजवाचक
2. ✓ अनिश्चयवाचक सर्वनाम
3. * उत्तम पुरुष
4. * निश्चय वाचक

Question Number : 164 Question Id : 54592740767 Question Type : MCQ Option Shuffling : Yes
Correct Marks : 1 Wrong Marks : 0.25

निम्नलिखित प्रश्न में, चार विकल्पों में से, उस विकल्प का चयन करें जो कोष्ठक में दिए गए शब्द के अनुसार सर्वनाम के भेद का सही विकल्प हो।

ऐसा लगा कि (कोई) आया है।

Options :

1. * निजवाचक
2. ✓ अनिश्चयवाचक सर्वनाम
3. * उत्तम पुरुष
4. * निश्चय वाचक

Question Number : 165 Question Id : 54592740768 Question Type : MCQ Option Shuffling : Yes
Correct Marks : 1 Wrong Marks : 0.25

निम्नलिखित प्रश्न में, चार विकल्पों में से, उस विकल्प का चयन करें जो (कोष्ठक में दिए गए शब्द के अनुसार अव्यय के भेद का सही विकल्प हो।

रोहन आज बस से आएगा (और) कल ट्रेन से चला जायेगा।

Options :

1. * क्रियाविशेषण अव्यय
2. ✓ समुच्चयबोधक अव्यय
3. * विस्मयादिबोधक अव्यय
4. * संबंधबोधक अव्यय

Question Number : 165 Question Id : 54592740768 Question Type : MCQ Option Shuffling : Yes
Correct Marks : 1 Wrong Marks : 0.25

निम्नलिखित प्रश्न में, चार विकल्पों में से, उस विकल्प का चयन करें जो (कोष्ठक में दिए गए शब्द के अनुसार अव्यय के भेद का सही विकल्प हो।

रोहन आज बस से आएगा (और) कल ट्रेन से चला जायेगा।

Options :

1. * क्रियाविशेषण अव्यय
2. ✓ समुच्चयबोधक अव्यय
3. * विस्मयादिबोधक अव्यय
4. * संबंधबोधक अव्यय

Question Number : 166 Question Id : 54592740769 Question Type : MCQ Option Shuffling : Yes
Correct Marks : 1 Wrong Marks : 0.25

निम्नलिखित प्रश्न में, चार विकल्पों में से, उस विकल्प का चयन करें जो दिए गए शब्द के पर्यायवाची शब्द का सही विकल्प नहीं है।

इंद्राणी -

Options :

1. * शची
2. * पुलोमजा
3. ✓ सुरदूम
4. * जयवाहिनी

Question Number : 166 Question Id : 54592740769 Question Type : MCQ Option Shuffling : Yes
Correct Marks : 1 Wrong Marks : 0.25

निम्नलिखित प्रश्न में, चार विकल्पों में से, उस विकल्प का चयन करें जो दिए गए शब्द के पर्यायवाची शब्द का सही विकल्प नहीं है।

इंद्राणी -

Options :

1. * शची
2. * पुलोमजा
3. ✓ सुरद्रुम
4. * जयवाहिनी

Question Number : 167 Question Id : 54592740770 Question Type : MCQ Option Shuffling : Yes

Correct Marks : 1 Wrong Marks : 0.25

निम्नलिखित प्रश्न में, चार विकल्पों में से, उस विकल्प का चयन करें जो दिए गए शब्द के विलोम शब्द का सही विकल्प है।

यथार्थ -

Options :

1. * सत्य
2. * उचित
3. ✓ कल्पित
4. * भविष्य

Question Number : 167 Question Id : 54592740770 Question Type : MCQ Option Shuffling : Yes

Correct Marks : 1 Wrong Marks : 0.25

निम्नलिखित प्रश्न में, चार विकल्पों में से, उस विकल्प का चयन करें जो दिए गए शब्द के विलोम शब्द का सही विकल्प है।

यथार्थ -

Options :

1. * सत्य
2. * उचित
3. ✓ कल्पित
4. * भविष्य

Question Number : 168 Question Id : 54592740771 Question Type : MCQ Option Shuffling : Yes

Correct Marks : 1 Wrong Marks : 0.25

निम्नलिखित प्रश्न में, चार विकल्पों में से, उस सही विकल्प का चयन करें जो दिए गए शब्द-युग्म के अर्थ का सही विकल्प हो।

विश्वंभर-विश्वंभरा

Options :

1. * चकित और भूला
2. * समूह और डंठल
3. ✓ परमेश्वर और पृथ्वी
4. * धरती और स्त्री

Question Number : 168 Question Id : 54592740771 Question Type : MCQ Option Shuffling : Yes

Correct Marks : 1 Wrong Marks : 0.25

निम्नलिखित प्रश्न में, चार विकल्पों में से, उस सही विकल्प का चयन करें जो दिए गए शब्द-युग्म के अर्थ का सही विकल्प हो।

विश्वंभर-विश्वंभरा

Options :

1. * चकित और भूला
2. * समूह और डंठल
3. ✓ परमेश्वर और पृथ्वी
4. * धरती और स्त्री

Question Number : 169 Question Id : 54592740772 Question Type : MCQ Option Shuffling : Yes

Correct Marks : 1 Wrong Marks : 0.25

निम्नलिखित प्रश्न में, चार विकल्पों में से, उस विकल्प का चयन करें जो दिए गए वाक्यांश के लिए एक शब्द का सही विकल्प है।

विधायिका द्वारा स्वीकृत नियम -

Options :

1. * अधिसूचना
2. * अधित्यका
3. ✓ अधिनियम
4. * अनुमोदन

Question Number : 169 Question Id : 54592740772 Question Type : MCQ Option Shuffling : Yes
Correct Marks : 1 Wrong Marks : 0.25

निम्नलिखित प्रश्न में, चार विकल्पों में से, उस विकल्प का चयन करें जो दिए गए वाक्यांश के लिए एक शब्द का सही विकल्प है।

विधायिका द्वारा स्वीकृत नियम -

Options :

1. * अधिसूचना
2. * अधित्यका
3. ✓ अधिनियम
4. * अनुमोदन

Question Number : 170 Question Id : 54592740773 Question Type : MCQ Option Shuffling : Yes
Correct Marks : 1 Wrong Marks : 0.25

निम्नलिखित प्रश्न में, चार विकल्पों में से, उस सही विकल्प का चयन करें जो रिक्त स्थान के लिए उचित विकल्प हो।

अपने _____ को छोड़कर तुम वहाँ क्यों जा रहे हो?

Options :

1. * परदेश
2. ✓ प्रदेश
3. * प्रकार
4. * दशा

Question Number : 170 Question Id : 54592740773 Question Type : MCQ Option Shuffling : Yes
Correct Marks : 1 Wrong Marks : 0.25

निम्नलिखित प्रश्न में, चार विकल्पों में से, उस सही विकल्प का चयन करें जो रिक्त स्थान के लिए उचित विकल्प हो ।

अपने _____ को छोड़कर तुम वहाँ क्यों जा रहे हो?

Options :

1. ✖ परदेश
2. ✔ प्रदेश
3. ✖ प्रकार
4. ✖ दशा

Question Number : 171 Question Id : 54592740774 Question Type : MCQ Option Shuffling : Yes

Correct Marks : 1 Wrong Marks : 0.25

निम्नलिखित प्रश्न में, चार विकल्पों में से, उस विकल्प का चयन करें जो दिए गए शब्द के समानार्थी शब्द का सही विकल्प नहीं है।

चोटी -

Options :

1. ✖ मूर्धा
2. ✖ शीश
3. ✔ मट
4. ✖ सानु

Question Number : 171 Question Id : 54592740774 Question Type : MCQ Option Shuffling : Yes

Correct Marks : 1 Wrong Marks : 0.25

निम्नलिखित प्रश्न में, चार विकल्पों में से, उस विकल्प का चयन करें जो दिए गए शब्द के समानार्थी शब्द का सही विकल्प नहीं है।

चोटी -

Options :

1. * मूर्धा
2. * शीश
3. ✓ मद
4. * सानु

Question Number : 172 Question Id : 54592740775 Question Type : MCQ Option Shuffling : Yes
Correct Marks : 1 Wrong Marks : 0.25

निम्नलिखित प्रश्न में, चार विकल्पों में से, उस सही विकल्प का चयन करें जो रिक्त स्थान के लिए उपयुक्त शब्द का सही विकल्प है।

ये पुस्तकें बच्चों के लिए _____ हैं।

Options :

1. * स्वावलंबी
2. ✓ उपयोगी
3. * दैनिक
4. * समदर्शी

Question Number : 172 Question Id : 54592740775 Question Type : MCQ Option Shuffling : Yes
Correct Marks : 1 Wrong Marks : 0.25

निम्नलिखित प्रश्न में, चार विकल्पों में से, उस सही विकल्प का चयन करें जो रिक्त स्थान के लिए उपयुक्त शब्द का सही विकल्प है।

ये पुस्तकें बच्चों के लिए _____ हैं।

Options :

1. * स्वावलंबी
2. ✓ उपयोगी
3. * दैनिक
4. * समदर्शी

Question Number : 173 Question Id : 54592740776 Question Type : MCQ Option Shuffling : Yes
Correct Marks : 1 Wrong Marks : 0.25

निम्नलिखित प्रश्न में, चार विकल्पों में से, उस विकल्प का चयन करें जो शुद्ध शब्द का सही विकल्प है।

Options :

1. * परत्युत्तर
2. ✓ प्रत्युत्तर
3. * प्रत्युततर
4. * प्रतीउत्तर

Question Number : 173 Question Id : 54592740776 Question Type : MCQ Option Shuffling : Yes
Correct Marks : 1 Wrong Marks : 0.25

निम्नलिखित प्रश्न में, चार विकल्पों में से, उस विकल्प का चयन करें जो शुद्ध शब्द का सही विकल्प है।

Options :

1. * परत्युत्तर
2. ✓ प्रत्युत्तर
3. * प्रत्युततर
4. * प्रतीउत्तर

Question Number : 174 Question Id : 54592740777 Question Type : MCQ Option Shuffling : Yes
Correct Marks : 1 Wrong Marks : 0.25

निम्नलिखित प्रश्न में, चार विकल्पों में से, उस विकल्प का चयन करें जो शुद्ध शब्द का सही विकल्प है।

Options :

1. * शरधालु
2. ✓ श्रद्धालु
3. * श्रधालु
4. * श्रधालू

Question Number : 174 Question Id : 54592740777 Question Type : MCQ Option Shuffling : Yes
Correct Marks : 1 Wrong Marks : 0.25

निम्नलिखित प्रश्न में, चार विकल्पों में से, उस विकल्प का चयन करें जो शुद्ध शब्द का सही विकल्प है।

Options :

1. ✖ शरधालु
2. ✔ श्रद्धालु
3. ✖ श्रधालु
4. ✖ श्रधालू

Question Number : 175 Question Id : 54592740778 Question Type : MCQ Option Shuffling : Yes

Correct Marks : 1 Wrong Marks : 0.25

निम्नलिखित प्रश्न में, चार विकल्पों में से, उस विकल्प का चयन करें जो शुद्ध शब्द का सही विकल्प है।

Options :

1. ✖ सरनार्थी
2. ✖ सर्नार्थी
3. ✔ शरणार्थी
4. ✖ शरनारथी

Question Number : 175 Question Id : 54592740778 Question Type : MCQ Option Shuffling : Yes

Correct Marks : 1 Wrong Marks : 0.25

निम्नलिखित प्रश्न में, चार विकल्पों में से, उस विकल्प का चयन करें जो शुद्ध शब्द का सही विकल्प है।

Options :

1. ✖ सरनार्थी
2. ✖ सर्नार्थी
3. ✔ शरणार्थी
4. ✖ शरनारथी

Question Number : 176 Question Id : 54592740779 Question Type : MCQ Option Shuffling : Yes

Correct Marks : 1 Wrong Marks : 0.25

निम्नलिखित प्रश्न में, चार विकल्पों में से, उस विकल्प का चयन करें जो सदा पुल्लिंग शब्द वाला सही विकल्प है।

Options :

1. * चिकनाहट
2. * उदासी
3. * छत
4. ✓ प्रेम

Question Number : 176 Question Id : 54592740779 Question Type : MCQ Option Shuffling : Yes

Correct Marks : 1 Wrong Marks : 0.25

निम्नलिखित प्रश्न में, चार विकल्पों में से, उस विकल्प का चयन करें जो सदा पुल्लिंग शब्द वाला सही विकल्प है।

Options :

1. * चिकनाहट
2. * उदासी
3. * छत
4. ✓ प्रेम

Question Number : 177 Question Id : 54592740780 Question Type : MCQ Option Shuffling : Yes

Correct Marks : 1 Wrong Marks : 0.25

निम्नलिखित प्रश्न में, चार विकल्पों में से, उस विकल्प का चयन करें जो सदा स्त्रीलिंग वाला शब्द है।

Options :

1. * नीलम
2. * मुँह
3. ✓ पगड़ी
4. * खानदान

Question Number : 177 Question Id : 54592740780 Question Type : MCQ Option Shuffling : Yes

Correct Marks : 1 Wrong Marks : 0.25

निम्नलिखित प्रश्न में, चार विकल्पों में से, उस विकल्प का चयन करें जो सदा स्त्रीलिंग वाला शब्द है।

Options :

1. * नीलम
2. * मुँह
3. ✓ पगड़ी
4. * खानदान

Question Number : 178 Question Id : 54592740781 Question Type : MCQ Option Shuffling : Yes

Correct Marks : 1 Wrong Marks : 0.25

निम्नलिखित प्रश्न में, चार विकल्पों में से, उस विकल्प का चयन करें जो सदा बहुवचन शब्द का सबसे अच्छा विकल्प है।

Options :

1. * सत्य
2. ✓ बल
3. * वर्षा
4. * रेल

Question Number : 178 Question Id : 54592740781 Question Type : MCQ Option Shuffling : Yes

Correct Marks : 1 Wrong Marks : 0.25

निम्नलिखित प्रश्न में, चार विकल्पों में से, उस विकल्प का चयन करें जो सदा बहुवचन शब्द का सबसे अच्छा विकल्प है।

Options :

1. * सत्य
2. ✓ बल
3. * वर्षा
4. * रेल

Question Number : 179 Question Id : 54592740782 Question Type : MCQ Option Shuffling : Yes

Correct Marks : 1 Wrong Marks : 0.25

निम्नलिखित प्रश्न में, चार विकल्पों में से, उस विकल्प का चयन करें जो कोष्ठक में दिए गए शब्द के अनुसार अन्य पुरुष वाचक सर्वनाम का सही विकल्प हो।

Options :

1. * (तुम्हें) कुछ भी बीच में बोलना नहीं है।
2. ✓ (वह) क्या कर रहा है ?
3. * (मैंने) अपना सामान खो दिया।
4. * (तुम) मेरे साथ चलोगे की नहीं?

Question Number : 179 Question Id : 54592740782 Question Type : MCQ Option Shuffling : Yes

Correct Marks : 1 Wrong Marks : 0.25

निम्नलिखित प्रश्न में, चार विकल्पों में से, उस विकल्प का चयन करें जो कोष्ठक में दिए गए शब्द के अनुसार अन्य पुरुष वाचक सर्वनाम का सही विकल्प हो।

Options :

1. * (तुम्हें) कुछ भी बीच में बोलना नहीं है।
2. ✓ (वह) क्या कर रहा है ?
3. * (मैंने) अपना सामान खो दिया।
4. * (तुम) मेरे साथ चलोगे की नहीं?

Question Number : 180 Question Id : 54592740783 Question Type : MCQ Option Shuffling : Yes

Correct Marks : 1 Wrong Marks : 0.25

निम्नलिखित प्रश्न में, चार विकल्पों में से, उस विकल्प का चयन करें जो दिए गए वाक्य के काल के भेद का सही विकल्प हो।

सब खाना खत्म हो चुका होगा।

Options :

1. ✓ संदिग्ध भूतकाल
2. * अपूर्ण वर्तमानकाल
3. * संदिग्ध वर्तमानकाल
4. * हेतुहेतु मद् भूतकाल

Question Number : 180 Question Id : 54592740783 Question Type : MCQ Option Shuffling : Yes

Correct Marks : 1 Wrong Marks : 0.25

निम्नलिखित प्रश्न में, चार विकल्पों में से, उस विकल्प का चयन करें जो दिए गए वाक्य के काल के भेद का सही विकल्प हो।

सब खाना खत्म हो चुका होगा।

Options :

1. ✓ संदिग्ध भूतकाल
2. ✗ अपूर्ण वर्तमानकाल
3. ✗ संदिग्ध वर्तमानकाल
4. ✗ हेतुहेतु मद् भूतकाल

General Hindi2

Group Number :	10
Group Id :	5459272020
Group Maximum Duration :	0
Group Minimum Duration :	120
Show Attended Group? :	No
Edit Attended Group? :	No
Break time:	0
Group Marks:	20
Is this Group for Examiner?:	No
Revisit allowed for group Instructions? :	Yes
Maximum Instruction Time:	0
Minimum Instruction Time:	0

General Hindi2

Section Id :	5459272020
Section Number :	1
Section type :	Online
Mandatory or Optional:	Mandatory
Number of Questions:	16
Number of Questions to be attempted:	16
Section Marks:	20

Sub-Section Number: 1
Sub-Section Id: 5459272423
Question Shuffling Allowed : Yes

Question Number : 181 Question Id : 54592740784 Question Type : MCQ Option Shuffling : Yes
Correct Marks : 1 Wrong Marks : 0.25

निम्नलिखित प्रश्न में, चार विकल्पों में से, उस विकल्प का चयन करें जो दिए गए वाक्य के लिए वृत्ति के भेद का सबसे अच्छा विकल्प है।

वह मंदिर से आता ही होगा।

Options :

1. * विध्यर्थ
2. * संकेतार्थ
3. ✓ संदेहार्थ
4. * निश्चयार्थ

Question Number : 181 Question Id : 54592740784 Question Type : MCQ Option Shuffling : Yes
Correct Marks : 1 Wrong Marks : 0.25

निम्नलिखित प्रश्न में, चार विकल्पों में से, उस विकल्प का चयन करें जो दिए गए वाक्य के लिए वृत्ति के भेद का सबसे अच्छा विकल्प है।

वह मंदिर से आता ही होगा।

Options :

1. * विध्यर्थ
2. * संकेतार्थ
3. ✓ संदेहार्थ
4. * निश्चयार्थ

Question Number : 182 Question Id : 54592740785 Question Type : MCQ Option Shuffling : Yes
Correct Marks : 1 Wrong Marks : 0.25

निम्नलिखित प्रश्न में, चार विकल्पों में से, उस विकल्प का चयन करें जो दिए गए वाक्य के लिए पक्ष के भेद का सबसे अच्छा विकल्प है।

तालाब में मछलियों की संख्या बढ़ती जा रही है!

Options :

1. ✓ प्रगतिद्योतक
2. * अभ्यासद्योतक
3. * आरंभद्योतक
4. * नित्यताद्योतक

Question Number : 182 Question Id : 54592740785 Question Type : MCQ Option Shuffling : Yes

Correct Marks : 1 Wrong Marks : 0.25

निम्नलिखित प्रश्न में, चार विकल्पों में से, उस विकल्प का चयन करें जो दिए गए वाक्य के लिए पक्ष के भेद का सबसे अच्छा विकल्प है।

तालाब में मछलियों की संख्या बढ़ती जा रही है!

Options :

1. ✓ प्रगतिद्योतक
2. * अभ्यासद्योतक
3. * आरंभद्योतक
4. * नित्यताद्योतक

Question Number : 183 Question Id : 54592740786 Question Type : MCQ Option Shuffling : Yes

Correct Marks : 1 Wrong Marks : 0.25

निम्न विकल्पों में से निर्देशानुसार वाच्य परिवर्तन का विकल्प चुनिए

गुरु जी से गीता पढ़ाई जाती है (कर्तृवाच्य)

Options :

1. * गीता को गुरु जी ने पढ़ाया
2. * गीता गुरु जी पढ़ाए

3. * गुरु जी गीता पढ़ाएंगे

4. ✓ गुरु जी गीता पढ़ाते हैं

Question Number : 183 Question Id : 54592740786 Question Type : MCQ Option Shuffling : Yes

Correct Marks : 1 Wrong Marks : 0.25

निम्न विकल्पों में से निर्देशानुसार वाच्य परिवर्तन का विकल्प चुनिए

गुरु जी से गीता पढ़ाई जाती है (कर्तृवाच्य)

Options :

1. * गीता को गुरु जी ने पढ़ाया

2. * गीता गुरु जी पढ़ाए

3. * गुरु जी गीता पढ़ाएंगे

4. ✓ गुरु जी गीता पढ़ाते हैं

Question Number : 184 Question Id : 54592740787 Question Type : MCQ Option Shuffling : Yes

Correct Marks : 1 Wrong Marks : 0.25

निम्नलिखित प्रश्न में, चार विकल्पों में से, उस विकल्प का चयन करें जो सही वाक्य भेद का विकल्प हो

वह केवल पढ़ता ही नहीं बल्कि लिखता भी है।

Options :

1. * विधानवाचक वाक्य

2. * सरल वाक्य

3. * मिश्र वाक्य

4. ✓ संयुक्त वाक्य

Question Number : 184 Question Id : 54592740787 Question Type : MCQ Option Shuffling : Yes

Correct Marks : 1 Wrong Marks : 0.25

निम्नलिखित प्रश्न में, चार विकल्पों में से, उस विकल्प का चयन करें जो सही वाक्य भेद का विकल्प हो

वह केवल पढ़ता ही नहीं बल्कि लिखता भी है।

Options :

1. * विधानवाचक वाक्य
2. * सरल वाक्य
3. * मिश्र वाक्य
4. ✓ संयुक्त वाक्य

Question Number : 185 Question Id : 54592740788 Question Type : MCQ Option Shuffling : Yes

Correct Marks : 1 Wrong Marks : 0.25

निम्नलिखित प्रश्न में, चार विकल्पों में से, उस विकल्प का चयन करें जो सही वाक्य भेद का विकल्प हो।

मैंने एक व्यक्ति देखा और वह बहुत दुबला-पतला था।

Options :

1. * विधानवाचक वाक्य
2. * सरल वाक्य
3. * मिश्र वाक्य
4. ✓ संयुक्त वाक्य

Question Number : 185 Question Id : 54592740788 Question Type : MCQ Option Shuffling : Yes

Correct Marks : 1 Wrong Marks : 0.25

निम्नलिखित प्रश्न में, चार विकल्पों में से, उस विकल्प का चयन करें जो सही वाक्य भेद का विकल्प हो।

मैंने एक व्यक्ति देखा और वह बहुत दुबला-पतला था।

Options :

1. * विधानवाचक वाक्य
2. * सरल वाक्य
3. * मिश्र वाक्य
4. ✓ संयुक्त वाक्य

Question Number : 186 Question Id : 54592740789 Question Type : MCQ Option Shuffling : Yes
Correct Marks : 1 Wrong Marks : 0.25

निम्नलिखित प्रश्न में, चार विकल्पों में से, उस विकल्प का चयन करें जो सही वाक्य भेद का विकल्प हो।

गांधी जी स्वराज चाहते थे और वह हमें मिल गया।

Options :

1. * विधानवाचक वाक्य
2. * सरल वाक्य
3. * मिश्र वाक्य
4. ✓ संयुक्त वाक्य

Question Number : 186 Question Id : 54592740789 Question Type : MCQ Option Shuffling : Yes
Correct Marks : 1 Wrong Marks : 0.25

निम्नलिखित प्रश्न में, चार विकल्पों में से, उस विकल्प का चयन करें जो सही वाक्य भेद का विकल्प हो।

गांधी जी स्वराज चाहते थे और वह हमें मिल गया।

Options :

1. * विधानवाचक वाक्य
2. * सरल वाक्य
3. * मिश्र वाक्य
4. ✓ संयुक्त वाक्य

Question Number : 187 Question Id : 54592740790 Question Type : MCQ Option Shuffling : Yes
Correct Marks : 1 Wrong Marks : 0.25

निम्नलिखित प्रश्न में, चार विकल्पों में से, उस विकल्प का चयन करें जो शुद्ध वाक्य का सबसे अच्छा विकल्प है।

Options :

1. * मैंने आज नई कमीज़ डाली
2. * कमीज़ नई डाली मैंने आज
3. ✓ मैंने आज नई कमीज़ पहनी है
4. * पहनी नई कमीज़ मैंने आज

Question Number : 187 Question Id : 54592740790 Question Type : MCQ Option Shuffling : Yes
Correct Marks : 1 Wrong Marks : 0.25

निम्नलिखित प्रश्न में, चार विकल्पों में से, उस विकल्प का चयन करें जो शुद्ध वाक्य का सबसे अच्छा विकल्प है।

Options :

1. * मैंने आज नई कमीज़ डाली
2. * कमीज़ नई डाली मैंने आज
3. ✓ मैंने आज नई कमीज़ पहनी है
4. * पहनी नई कमीज़ मैंने आज

Question Number : 188 Question Id : 54592740791 Question Type : MCQ Option Shuffling : Yes
Correct Marks : 1 Wrong Marks : 0.25

निम्नलिखित प्रश्न में, चार विकल्पों में से, उस विकल्प का चयन करें जो विराम चिह्न युक्त वाक्य का सही विकल्प हो।

Options :

1. * बच्चे खेल रहे थे। "अचानक बारिश आ गई।"
2. * बच्चे खेल रहे थे- अचानक बारिश आ गई।
3. ✓ बच्चे खेल रहे थे। अचानक बारिश आ गई।
4. * बच्चे खेल रहे थे। अचानक बारिश आ गई?

Question Number : 188 Question Id : 54592740791 Question Type : MCQ Option Shuffling : Yes
Correct Marks : 1 Wrong Marks : 0.25

निम्नलिखित प्रश्न में, चार विकल्पों में से, उस विकल्प का चयन करें जो विराम चिह्न युक्त वाक्य का सही विकल्प हो।

Options :

1. * बच्चे खेल रहे थे। "अचानक बारिश आ गई।"
2. * बच्चे खेल रहे थे- अचानक बारिश आ गई।
3. ✓ बच्चे खेल रहे थे। अचानक बारिश आ गई।
4. * बच्चे खेल रहे थे। अचानक बारिश आ गई?

Question Number : 189 Question Id : 54592740792 Question Type : MCQ Option Shuffling : Yes

Correct Marks : 1 Wrong Marks : 0.25

निम्नलिखित प्रश्न में, चार विकल्पों में से, उस विकल्प का चयन करें जो विराम चिह्न युक्त वाक्य का सही विकल्प हो।

Options :

1. ✓ वह कहाँ मिलेगी आपको?
2. * वह, कहाँ, मिलेगी आपको?
3. * वह कहाँ ? मिलेगी आपको?
4. * वह कहाँ मिलेगी, आपको?

Question Number : 189 Question Id : 54592740792 Question Type : MCQ Option Shuffling : Yes

Correct Marks : 1 Wrong Marks : 0.25

निम्नलिखित प्रश्न में, चार विकल्पों में से, उस विकल्प का चयन करें जो विराम चिह्न युक्त वाक्य का सही विकल्प हो।

Options :

1. ✓ वह कहाँ मिलेगी आपको?
2. * वह, कहाँ, मिलेगी आपको?
3. * वह कहाँ ? मिलेगी आपको?
4. * वह कहाँ मिलेगी, आपको?

Question Number : 190 Question Id : 54592740793 Question Type : MCQ Option Shuffling : Yes

Correct Marks : 1 Wrong Marks : 0.25

निम्नलिखित प्रश्न में, चार विकल्पों में से, उस विकल्प का चयन करें जो दिए गए मुहावरे के लिए सही अर्थ वाला विकल्प है।

अकल पर पत्थर पड़ना

Options :

1. * कठिन काम करना
2. * बुद्धिमान व्यक्ति
3. * सबसे अलग
4. ✓ अज्ञान से काम लेना

Question Number : 190 Question Id : 54592740793 Question Type : MCQ Option Shuffling : Yes

Correct Marks : 1 Wrong Marks : 0.25

निम्नलिखित प्रश्न में, चार विकल्पों में से, उस विकल्प का चयन करें जो दिए गए मुहावरे के लिए सही अर्थ वाला विकल्प है।

अकल पर पत्थर पड़ना

Options :

1. * कठिन काम करना
2. * बुद्धिमान व्यक्ति
3. * सबसे अलग
4. ✓ अज्ञान से काम लेना

Question Number : 191 Question Id : 54592740794 Question Type : MCQ Option Shuffling : Yes

Correct Marks : 1 Wrong Marks : 0.25

निम्नलिखित प्रश्न में, चार विकल्पों में से, उस विकल्प का चयन करें जो दिए गए मुहावरे के लिए सही अर्थ वाला विकल्प है।

कमर सीधी करना

Options :

1. ✓ थकान मिटाना

2. * हतोत्साहित होना
3. * मेहनत करना
4. * दुखी होना

Question Number : 191 Question Id : 54592740794 Question Type : MCQ Option Shuffling : Yes
Correct Marks : 1 Wrong Marks : 0.25

निम्नलिखित प्रश्न में, चार विकल्पों में से, उस विकल्प का चयन करें जो दिए गए मुहावरे के लिए सही अर्थ वाला विकल्प है।

कमर सीधी करना

Options :

1. ✓ थकान मिटाना
2. * हतोत्साहित होना
3. * मेहनत करना
4. * दुखी होना

Question Number : 192 Question Id : 54592740795 Question Type : MCQ Option Shuffling : Yes
Correct Marks : 1 Wrong Marks : 0.25

निम्नलिखित प्रश्न में, चार विकल्पों में से, उस विकल्प का चयन करें जो दिए गए मुहावरे के लिए सही अर्थ वाला विकल्प है।

गर्दन पर सवार होना

Options :

1. ✓ पीछे पड़े रहना
2. * प्रिय वस्तु
3. * बड़ा कार्य करना
4. * गौरव से भरना

Question Number : 192 Question Id : 54592740795 Question Type : MCQ Option Shuffling : Yes
Correct Marks : 1 Wrong Marks : 0.25

निम्नलिखित प्रश्न में, चार विकल्पों में से, उस विकल्प का चयन करें जो दिए गए मुहावरे के लिए सही अर्थ वाला विकल्प है।

गर्दन पर सवार होना

Options :

1. ✓ पीछे पड़े रहना
2. * प्रिय वस्तु
3. * बड़ा कार्य करना
4. * गौरव से भरना

Question Number : 193 Question Id : 54592740796 Question Type : MCQ Option Shuffling : Yes

Correct Marks : 1 Wrong Marks : 0.25

निम्नलिखित प्रश्न में, चार विकल्पों में से, उस विकल्प का चयन करें जो दी गई लोकोक्ति के लिए सही अर्थ वाला विकल्प है।

मरता क्या न करता

Options :

1. * काम करने के लिया गलत रास्ता अपनाना
2. ✓ विवशता में आदमी को कुछ भी करना पड़ता है
3. * अपना फायदा करना
4. * न जाने क्या हो

Question Number : 193 Question Id : 54592740796 Question Type : MCQ Option Shuffling : Yes

Correct Marks : 1 Wrong Marks : 0.25

निम्नलिखित प्रश्न में, चार विकल्पों में से, उस विकल्प का चयन करें जो दी गई लोकोक्ति के लिए सही अर्थ वाला विकल्प है।

मरता क्या न करता

Options :

1. * काम करने के लिये गलत रास्ता अपनाना
2. ✓ विवशता में आदमी को कुछ भी करना पड़ता है
3. * अपना फायदा करना
4. * न जाने क्या हो

Question Number : 194 Question Id : 54592740797 Question Type : MCQ Option Shuffling : Yes
Correct Marks : 1 Wrong Marks : 0.25

निम्नलिखित प्रश्न में, चार विकल्पों में से, उस विकल्प का चयन करें जो दी गई लोकोक्ति के लिए सही अर्थ वाला विकल्प है।

सोने पे सुहागा होना

Options :

1. * और बलवान होना
2. * एक से भले दो
3. ✓ अच्छी वस्तु में और गुण होना
4. * साधारण काम न होना

Question Number : 194 Question Id : 54592740797 Question Type : MCQ Option Shuffling : Yes
Correct Marks : 1 Wrong Marks : 0.25

निम्नलिखित प्रश्न में, चार विकल्पों में से, उस विकल्प का चयन करें जो दी गई लोकोक्ति के लिए सही अर्थ वाला विकल्प है।

सोने पे सुहागा होना

Options :

1. * और बलवान होना
2. * एक से भले दो
3. ✓ अच्छी वस्तु में और गुण होना
4. * साधारण काम न होना

Question Number : 195 Question Id : 54592740798 Question Type : MCQ Option Shuffling : Yes
Correct Marks : 1 Wrong Marks : 0.25

निम्नलिखित प्रश्न में, चार विकल्पों में से, उस सही विकल्प का चयन करें जो दी गई लोकोक्ति के लिए सही अर्थ वाला विकल्प है।

तेते पाँव पसारिये जेती लांबी सौर

Options :

1. * असंभव बात सोचना
2. ✓ आय के अनुसार व्यय करना
3. * गुलामी में चैन नहीं
4. * निराशा मिलना

Question Number : 195 Question Id : 54592740798 Question Type : MCQ Option Shuffling : Yes
Correct Marks : 1 Wrong Marks : 0.25

निम्नलिखित प्रश्न में, चार विकल्पों में से, उस सही विकल्प का चयन करें जो दी गई लोकोक्ति के लिए सही अर्थ वाला विकल्प है।

तेते पाँव पसारिये जेती लांबी सौर

Options :

1. * असंभव बात सोचना
2. ✓ आय के अनुसार व्यय करना
3. * गुलामी में चैन नहीं
4. * निराशा मिलना

Sub-Section Number: 2
Sub-Section Id: 5459272424
Question Shuffling Allowed : Yes

Question Id : 54592740799 Question Type : COMPREHENSION Sub Question Shuffling Allowed : Yes Group Comprehension Questions : No

Question Numbers : (196 to 200)

Question Label : Comprehension

इस गद्यांश को ध्यानपूर्वक पढ़ें और चार विकल्पों में से प्रत्येक प्रश्न का सर्वोत्तम उत्तर चुनें।

भाग्यवादी व्यक्ति आलसी तथा निकम्मा तो हो ही जाता है, वह अपने समूचे व्यक्तित्व और जीवन को दुखी भी बना लेता है। वह यह नहीं सोचता कि ईश्वर ने उसे ठीक बुद्धि दी है, सोचने-समझने की शक्ति दी है, अनेक प्रकार की शक्तियाँ प्रदान की है और ये सारी वस्तुएँ इसीलिए दी हैं कि इन सबका उचित तथा सुसाधित प्रयोग करके वह पुरुषार्थ के मार्ग पर अग्रसर होकर अपने जीवन को सुखी तथा समृद्ध बना ले। इस प्रकार पूर्णतया भाग्यवाद के चक्कर में पड़कर मनुष्य युगों-युगों से चालक लोगों के हाथों शोषित तथा पीड़ित होता आ रहा है। वह भाग्य को पूर्वजन्म के कर्मों का परिणाम मानता आ रहा है। एक सलाहकार का बेटा बिना परिश्रम किए ही अपने पिता की गद्दी का वारिस बन जाता है। अतः भाग्यवादी मान्यताओं के अनुसार स्पष्ट है कि यहाँ पूर्वजन्म के कर्मों के रूप में उसको सब-कुछ प्राप्त हुआ है। भाग्य और पूर्वजन्म के कर्मों के रूप में उसका भोग प्रत्येक व्यक्ति के लिए अनिवार्य है। उससे बच पाना कठिन ही नहीं बल्कि असंभव भी है।

Sub questions

Question Number : 196 Question Id : 54592740800 Question Type : MCQ Option Shuffling : Yes

Correct Marks : 1 Wrong Marks : 0.25

भाग्यवादी व्यक्ति कैसा बन जाता है?

Options :

1. * बुद्धिमान
2. ✓ आलसी और निकम्मा
3. * सुखी तथा समृद्ध
4. * गद्दी का वारिस

Question Number : 197 Question Id : 54592740801 Question Type : MCQ Option Shuffling : Yes

Correct Marks : 1 Wrong Marks : 0.25

भाग्यवादी व्यक्ति क्या नहीं सोचता?

Options :

1. * आलसी और निकम्मा बना रहे
2. ✓ ईश्वर द्वारा दी गई शक्तियों का उपयोग कर जीवन सुखी बना ले
3. * व्यक्तित्व और जीवन को दुखी बनाये रखे

4. * आराम के तरीके

Question Number : 198 Question Id : 54592740802 Question Type : MCQ Option Shuffling : Yes
Correct Marks : 1 Wrong Marks : 0.25

भाग्यवाद के चक्कर में पड़कर मनुष्य क्या करता आ रहा है?

Options :

1. * आराम का आनंद
2. * जीवन को सुखी बनाना
3. ✓ चालाक लोगों के हाथों शोषित
4. * कुछ भी नहीं

Question Number : 199 Question Id : 54592740803 Question Type : MCQ Option Shuffling : Yes
Correct Marks : 1 Wrong Marks : 0.25

इनमें से कौन - सा अग्रसर शब्द का पर्यायवाची नहीं है?

Options :

1. ✓ अविकसित
2. * विकासशील
3. * उदीयमान
4. * उत्थानशील

Question Number : 200 Question Id : 54592740804 Question Type : MCQ Option Shuffling : Yes
Correct Marks : 1 Wrong Marks : 0.25

इस अनुच्छेद का कोई उपयुक्त शीर्षक-

Options :

1. * उचित और अनुचित
2. * बुद्धि और विवेक
3. * जीवन का लेखा-जोखा
4. ✓ भाग्य और पूर्वजन्म का खेल

Question Id : 54592740799 Question Type : COMPREHENSION Sub Question Shuffling Allowed : Yes Group Comprehension
Questions : No

Question Numbers : (196 to 200)

Question Label : Comprehension

इस गद्यांश को ध्यानपूर्वक पढ़ें और चार विकल्पों में से प्रत्येक प्रश्न का सर्वोत्तम उत्तर चुनें।

भाग्यवादी व्यक्ति आलसी तथा निकम्मा तो हो ही जाता है, वह अपने समूचे व्यक्तित्व और जीवन को दुखी भी बना लेता है। वह यह नहीं सोचता कि ईश्वर ने उसे ठीक बुद्धि दी है, सोचने-समझने की शक्ति दी है, अनेक प्रकार की शक्तियाँ प्रदान की है और ये सारी वस्तुएँ इसीलिए दी हैं कि इन सबका उचित तथा सुसाधित प्रयोग करके वह पुरुषार्थ के मार्ग पर अग्रसर होकर अपने जीवन को सुखी तथा समृद्ध बना ले। इस प्रकार पूर्णतया भाग्यवाद के चक्कर में पड़कर मनुष्य युगों-युगों से चालक लोगों के हाथों शोषित तथा पीड़ित होता आ रहा है। वह भाग्य को पूर्वजन्म के कर्मों का परिणाम मानता आ रहा है। एक सलाहकार का बेटा बिना परिश्रम किए ही अपने पिता की गद्दी का वारिस बन जाता है। अतः भाग्यवादी मान्यताओं के अनुसार स्पष्ट है कि यहाँ पूर्वजन्म के कर्मों के रूप में उसको सब-कुछ प्राप्त हुआ है। भाग्य और पूर्वजन्म के कर्मों के रूप में उसका भोग प्रत्येक व्यक्ति के लिए अनिवार्य है। उससे बच पाना कठिन ही नहीं बल्कि असंभव भी है।

Sub questions

Question Number : 196 Question Id : 54592740800 Question Type : MCQ Option Shuffling : Yes
Correct Marks : 1 Wrong Marks : 0.25

भाग्यवादी व्यक्ति कैसा बन जाता है?

Options :

1. * बुद्धिमान
2. ✓ आलसी और निकम्मा
3. * सुखी तथा समृद्ध

4. * गद्दी का वारिस

Question Number : 197 Question Id : 54592740801 Question Type : MCQ Option Shuffling : Yes
Correct Marks : 1 Wrong Marks : 0.25

भाग्यवादी व्यक्ति क्या नहीं सोचता?

Options :

1. * आलसी और निकम्मा बना रहे
2. ✓ ईश्वर द्वारा दी गई शक्तियों का उपयोग कर जीवन सुखी बना ले
3. * व्यक्तित्व और जीवन को दुखी बनाये रखे
4. * आराम के तरीके

Question Number : 198 Question Id : 54592740802 Question Type : MCQ Option Shuffling : Yes
Correct Marks : 1 Wrong Marks : 0.25

भाग्यवाद के चक्कर में पड़कर मनुष्य क्या करता आ रहा है?

Options :

1. * आराम का आनंद
2. * जीवन को सुखी बनाना
3. ✓ चालाक लोगों के हाथों शोषित
4. * कुछ भी नहीं

Question Number : 199 Question Id : 54592740803 Question Type : MCQ Option Shuffling : Yes
Correct Marks : 1 Wrong Marks : 0.25

इनमें से कौन - सा अग्रसर शब्द का पर्यायवाची नहीं है?

Options :

1. ✓ अविकसित
2. * विकासशील
3. * उदीयमान
4. * उत्थानशील

Question Number : 200 Question Id : 54592740804 Question Type : MCQ Option Shuffling : Yes

Correct Marks : 1 Wrong Marks : 0.25

इस अनुच्छेद का कोई उपयुक्त शीर्षक-

Options :

1. ✖ उचित और अनुचित
2. ✖ बुद्धि और विवेक
3. ✖ जीवन का लेखा-जोखा
4. ✔ भाग्य और पूर्वजन्म का खेल