

Education Consultant India Ltd.

Notations :

1.Options shown in **green** color and with ✓ icon are correct.

2.Options shown in **red** color and with ✖ icon are incorrect.

Question Paper Name:	Grade IV DASS 20th September 2019 Shift 2
Subject Name:	Grade IV DASS
Creation Date:	2019-09-20 17:15:06
Duration:	120
Total Marks:	200
Display Marks:	Yes
Share Answer Key With Delivery Engine:	No
Actual Answer Key:	Yes
Calculator:	None
Magnifying Glass Required?:	No
Ruler Required?:	No
Eraser Required?:	No
Scratch Pad Required?:	No
Rough Sketch/Notepad Required?:	No
Protractor Required?:	No
Show Watermark on Console?:	Yes
Highlighter:	No
Auto Save on Console?:	No

Mental Ability1

Group Number :	1
Group Id :	5459271991
Group Maximum Duration :	0
Group Minimum Duration :	0
Show Attended Group? :	No
Edit Attended Group? :	No
Break time:	0
Group Marks:	20
Is this Group for Examiner?:	No
Revisit allowed for group Instructions? :	Yes
Maximum Instruction Time:	0
Minimum Instruction Time:	0

Mental Ability1

Section Id :	5459271991
Section Number :	1

Section type :	Online
Mandatory or Optional:	Mandatory
Number of Questions:	20
Number of Questions to be attempted:	20
Section Marks:	20

Sub-Section Number:	1
Sub-Section Id:	5459272389
Question Shuffling Allowed :	Yes

Question Number : 1 Question Id : 54592740199 Question Type : MCQ Option Shuffling : Yes
Correct Marks : 1 Wrong Marks : 0.25

Find the missing term in the following series:

N2R, Q5U, ____, W14A

Options :

1. ✘ T8X
2. ✘ S12Y
3. ✘ S9Y
4. ✔ T9X

Question Number : 1 Question Id : 54592740199 Question Type : MCQ Option Shuffling : Yes
Correct Marks : 1 Wrong Marks : 0.25

निम्नलिखित अक्षर श्रृंखला में लुप्त पद ज्ञात करें:

N2R, Q5U, ____, W14A

Options :

1. ✘ T8X
2. ✘ S12Y
3. ✘ S9Y
4. ✔ T9X

Question Number : 2 Question Id : 54592740200 Question Type : MCQ Option Shuffling : Yes
Correct Marks : 1 Wrong Marks : 0.25

Find the wrong term in the following series:

ZVX, WSU, TPR, QMO, NKL

Note: For this question, discrepancy is found in question/answer. So, this question is ignored for all candidates.

Options :

1. WSU
2. TPR
3. QMO
4. NKL

Question Number : 2 Question Id : 54592740200 Question Type : MCQ Option Shuffling : Yes

Correct Marks : 1 Wrong Marks : 0.25

निम्नलिखित श्रृंखला में गलत पद ज्ञात करें:

ZVX, WSU, TPR, QMO, NKL

Note: For this question, discrepancy is found in question/answer. So, this question is ignored for all candidates.

Options :

1. WSU
2. TPR
3. QMO
4. NKL

Question Number : 3 Question Id : 54592740201 Question Type : MCQ Option Shuffling : Yes

Correct Marks : 1 Wrong Marks : 0.25

Arrange the given words in the sequence in which they occur in the dictionary.

1. Pragmatic
2. Practical
3. Praising
4. Pralines
5. Prattled

Options :

1. * 3,4,1,5,2
2. * 2,3,4,5,1
3. ✓ 2,1,3,4,5
4. * 2,3,5,4,1

Question Number : 3 Question Id : 54592740201 Question Type : MCQ Option Shuffling : Yes

Correct Marks : 1 Wrong Marks : 0.25

निम्नलिखित शब्दों को उस क्रम में व्यवस्थित करें जैसे वे शब्दकोश में होते हैं।

1. Pragmatic
2. Practical
3. Praising
4. Pralines
5. Prattled

Options :

1. * 3,4,1,5,2
2. * 2,3,4,5,1
3. ✓ 2,1,3,4,5

4. ✖ 2,3,5,4,1

Question Number : 4 Question Id : 54592740202 Question Type : MCQ Option Shuffling : Yes
Correct Marks : 1 Wrong Marks : 0.25

Out of the given options, three are similar in a certain manner. However, one option is NOT like the other three. Select the option which is different from the rest.

Options :

1. ✖ KMI
2. ✔ GID
3. ✖ PRN
4. ✖ WYU

Question Number : 4 Question Id : 54592740202 Question Type : MCQ Option Shuffling : Yes
Correct Marks : 1 Wrong Marks : 0.25

दिए गए विकल्पों में से, तीन एक निश्चित तरीके से समान हैं। हालाँकि, एक विकल्प अन्य तीन की तरह नहीं है। उस विकल्प का चयन करें जो बाकी से अलग है।

Options :

1. ✖ KMI
2. ✔ GID
3. ✖ PRN
4. ✖ WYU

Question Number : 5 Question Id : 54592740203 Question Type : MCQ Option Shuffling : Yes
Correct Marks : 1 Wrong Marks : 0.25

In the given options 3 pair of words are similarly related and one pair is differently related. Find the pair which is differently related.

Options :

1. ✔ Judge : Court

2. * Painter : Painting

3. * Professor : Education

4. * Author : Book

Question Number : 5 Question Id : 54592740203 Question Type : MCQ Option Shuffling : Yes

Correct Marks : 1 Wrong Marks : 0.25

दिए गए विकल्पों में 3 शब्दों के जोड़े एकसमान संबंधित हैं और एक जोड़ी अलग तरह से संबंधित है। उस जोड़ी को ज्ञात करें जो अलग तरह से संबंधित है।

Options :

1. ✓ न्यायाधीश : न्यायालय

2. * चित्रकार : चित्रकारी

3. * प्राध्यापक : शिक्षा

4. * लेखक : किताब

Question Number : 6 Question Id : 54592740204 Question Type : MCQ Option Shuffling : Yes

Correct Marks : 1 Wrong Marks : 0.25

In the given options 3 pair of letters are similarly related and one pair is differently related. Find the pair which is differently related.

Options :

1. * CF : HK

2. * LY : QD

3. ✓ NT : SA

4. * OU : TZ

Question Number : 6 Question Id : 54592740204 Question Type : MCQ Option Shuffling : Yes

Correct Marks : 1 Wrong Marks : 0.25

दिए गए विकल्पों में 3 अक्षरों के जोड़े एकसमान संबंधित हैं और एक जोड़ी अलग तरह से संबंधित है। उस जोड़ी को ज्ञात करें जो अलग तरह से संबंधित है।

Options :

1. ✖ CF : HK
2. ✖ LY : QD
3. ✔ NT : SA
4. ✖ OU : TZ

Question Number : 7 Question Id : 54592740205 Question Type : MCQ Option Shuffling : Yes

Correct Marks : 1 Wrong Marks : 0.25

Select the option that is related to the third term on the same basis as the second term is related to the first term.

EKR : IOV :: MTZ : ?

Options :

1. ✖ PWC
2. ✖ RYE
3. ✔ QXD
4. ✖ QYE

Question Number : 7 Question Id : 54592740205 Question Type : MCQ Option Shuffling : Yes

Correct Marks : 1 Wrong Marks : 0.25

उस विकल्प का चयन करें जो तीसरे पद से उसी प्रकार से संबंधित है जिस प्रकार से पहला पद दूसरे पद से संबंधित है।

EKR : IOV :: MTZ : ?

Options :

1. ✖ PWC

2. ✖ RYE

3. ✔ QXD

4. ✖ QYE

Question Number : 8 Question Id : 54592740206 Question Type : MCQ Option Shuffling : Yes
Correct Marks : 1 Wrong Marks : 0.25

Select the pair that is related on the same basis to the pair given in the question.

DQW : HUA :: ?

Options :

1. ✖ CBN : FKR

2. ✖ AMP : ESV

3. ✖ LDU : OHA

4. ✔ EHK : ILO

Question Number : 8 Question Id : 54592740206 Question Type : MCQ Option Shuffling : Yes
Correct Marks : 1 Wrong Marks : 0.25

उस जोड़ी का चयन करें जो उसी आधार पर संबंधित हों, जिस आधार पर सवाल में दी गई जोड़ी संबंधित हैं।

DQW : HUA :: ?

Options :

1. ✖ CBN : FKR

2. ✖ AMP : ESV

3. ✖ LDU : OHA

4. ✔ EHK : ILO

Question Number : 9 Question Id : 54592740207 Question Type : MCQ Option Shuffling : Yes
Correct Marks : 1 Wrong Marks : 0.25

Select the group of letters that is related on the same basis to the group of letters given in the question.

BLR : DNT : CMS :: ?

Options :

1. ✖ MZA : XND : YAE
2. ✖ UZD : VBH : MSJ
3. ✔ UZD : WBF : VAE
4. ✖ MZA : UZD : SNR

Question Number : 9 Question Id : 54592740207 Question Type : MCQ Option Shuffling : Yes

Correct Marks : 1 Wrong Marks : 0.25

उस अक्षरों के समूह का चयन करें जो उसी आधार पर संबंधित हों, जिस आधार पर सवाल में दिए गए अक्षरों के समूह संबंधित हैं।

BLR : DNT : CMS :: ?

Options :

1. ✖ MZA : XND : YAE
2. ✖ UZD : VBH : MSJ
3. ✔ UZD : WBF : VAE
4. ✖ MZA : UZD : SNR

Question Number : 10 Question Id : 54592740208 Question Type : MCQ Option Shuffling : Yes

Correct Marks : 1 Wrong Marks : 0.25

If bananas are called oranges, oranges are called strawberries, strawberries are called grapes, grapes are called apples, apples are called mangoes, then which of the following are green in colour?

Options :

1. ✖ grapes

2. ✖ mangoes

3. ✖ oranges

4. ✔ apples

Question Number : 10 Question Id : 54592740208 Question Type : MCQ Option Shuffling : Yes

Correct Marks : 1 Wrong Marks : 0.25

यदि केले को नारंगी कहा जाए, नारंगी को स्ट्रॉबेरी कहा जाए, स्ट्रॉबेरी को अंगूर कहा जाए, अंगूर को सेब कहा जाए, सेब को आम कहा जाए, तो निम्नलिखित में से किसका रंग हरा है?

Options :

1. ✖ अंगूर

2. ✖ आम

3. ✖ नारंगी

4. ✔ सेब

Question Number : 11 Question Id : 54592740209 Question Type : MCQ Option Shuffling : Yes

Correct Marks : 1 Wrong Marks : 0.25

In a certain code language,

'Economic growth of Europe' is coded as 'fi da gi ha'

'high price low growth state' is coded as 'hi gi ti si ki'

'growth of the United State' is coded as 'ti ha fi gi li'

'high inflation in Europe' is coded as 'da hi ji pi'

What is the code for 'high rate in Europe'?

Options :

1. ✖ sa da pi ha

2. ✖ pi da hi si

3. ✖ hi pi gi fi

4. ✔ hi ni pi da

Question Number : 11 Question Id : 54592740209 Question Type : MCQ Option Shuffling : Yes

Correct Marks : 1 Wrong Marks : 0.25

एक निश्चित कोड भाषा में,

'Economic growth of Europe' का कोड है 'fi da gi ha'

'high price low growth state' का कोड है 'hi gi ti si ki'

'growth of the United State' का कोड है 'ti ha fi gi li'

'high inflation in Europe' का कोड है 'da hi ji pi'

'high rate in Europe' का कोड क्या है?

Options :

1. * sa da pi ha

2. * pi da hi si

3. * hi pi gi fi

4. ✓ hi ni pi da

Question Number : 12 Question Id : 54592740210 Question Type : MCQ Option Shuffling : Yes

Correct Marks : 1 Wrong Marks : 0.25

If SEASON is coded as NZVNJI, then what is the code for PRUDENT?

Options :

1. * KNPYAOL

2. ✓ KMPYZIO

3. * KMPXYIM

4. * KNPXASIM

Question Number : 12 Question Id : 54592740210 Question Type : MCQ Option Shuffling : Yes

Correct Marks : 1 Wrong Marks : 0.25

यदि SEASON को NZVNJI के रूप में कोडित किया जाता है, तो PRUDENT का कोड क्या है?

Options :

1. * KNPYAOL

2. ✓ KMPYZIO

3. ✗ KMPXYIM

4. ✗ KNPXASIM

Question Number : 13 Question Id : 54592740211 Question Type : MCQ Option Shuffling : Yes
Correct Marks : 1 Wrong Marks : 0.25

Seven friends live in a housing colony, in a row that has 7 houses facing the same direction. The information about the 7 occupants of these houses is as follows:

1. P lives to the immediate left of N.
2. M has only one neighbour.
3. R and S do not live next to each other.
4. Only one house is between N's and T's houses.
5. R lives immediately between U's and N's houses.
6. Neither U nor S lives in a corner house.
7. Each friend lives in a separate house.

Who among the following is U's immediate neighbour?

Options :

1. ✗ P

2. ✗ T

3. ✗ N

4. ✓ S

Question Number : 13 Question Id : 54592740211 Question Type : MCQ Option Shuffling : Yes
Correct Marks : 1 Wrong Marks : 0.25

सात दोस्त एक हाउसिंग कॉलोनी में रहते हैं, जिसमें एक ही दिशा में 7 घर हैं। इन घरों के 7 रहने वालों की जानकारी इस प्रकार है:

1. P, N के बाएं ओर रहता है।
 2. M का केवल एक पड़ोसी है।
 3. R और S एक दूसरे के बगल में नहीं रहते हैं।
 4. केवल एक घर N और T के घरों के बीच है।
 5. R, U और N के घरों के बीचोंबीच रहता है।
 6. न तो U और न ही S एक कोने के घर में रहते हैं।
 7. प्रत्येक दोस्त एक अलग घर में रहते है।
- U के एकदम पड़ोसियों में से कौन है?

Options :

1. * P
2. * T
3. * N
4. ✓ S

Question Number : 14 Question Id : 54592740212 Question Type : MCQ Option Shuffling : Yes
Correct Marks : 1 Wrong Marks : 0.25

Three out of four words given below are similar following a certain criterion. Select the word that does not follow this criterion and is different from the others.

Options :

1. * Soldier
2. * Physician
3. ✓ Professional
4. * Architect

Question Number : 14 Question Id : 54592740212 Question Type : MCQ Option Shuffling : Yes

Correct Marks : 1 Wrong Marks : 0.25

नीचे दिए गए चार शब्दों में से तीन का निश्चित रूप से एक ही मानदंड हैं। उस शब्द का चयन करें जो इस मानदंड का पालन नहीं करता है और दूसरों से अलग है।

Options :

1. * फौजी
2. * चिकित्सक
3. ✓ पेशेवर
4. * वास्तुकार

Question Number : 15 Question Id : 54592740213 Question Type : MCQ Option Shuffling : Yes

Correct Marks : 1 Wrong Marks : 0.25

Select the option that arranges the words given below in the most appropriate and meaningful sequence.

1. Screening Test
2. Selection
3. Appointment
4. Interview
5. Application

Options :

1. ✓ 5-1-4-2-3
2. * 3 - 1 - 4 - 5 - 2
3. * 5-4-2-3-1
4. * 4-5-1-3-2

Question Number : 15 Question Id : 54592740213 Question Type : MCQ Option Shuffling : Yes

Correct Marks : 1 Wrong Marks : 0.25

नीचे दिए गए शब्दों को सबसे उपयुक्त और सार्थक अनुक्रम में व्यवस्थित करने वाले विकल्प का चयन करें।

1. Screening Test
2. Selection
3. Appointment
4. Interview
5. Application

Options :

1. ✓ 5-1-4-2-3
2. ✗ 3 - 1 - 4 - 5 - 2
3. ✗ 5-4-2-3-1
4. ✗ 4-5-1-3-2

Question Number : 16 Question Id : 54592740214 Question Type : MCQ Option Shuffling : Yes
Correct Marks : 1 Wrong Marks : 0.25

Analyse the given information and answer the question that follows.

The criteria for selecting a Software Developer have been given as under:

The candidate must:

1. Be a graduate in Science or Engineering with at least 60% marks.
2. Have more than 1 year of industry experience in software development
3. Be between 18 and 27 years old on the date of application

The following exceptions apply:

- A. If a candidate meets all other criteria except 2 above, the candidate will be referred to the Programme Manager.
- B. A candidate whose age is more than 27 years but less than 32 years will be referred to the Recruiting Manager.

Murtaza Sheikh is a science graduate with 86% marks. He has started working as a software developer with a reputed firm about 6 months ago. He is a gold medalist in Physics. He is 22 years old.

What decision should be taken about this candidate?

Options :

1. ✖ The candidate should be selected.
2. ✖ The candidate should be rejected.
3. ✔ The candidate should be referred to the Programme Manager.
4. ✖ The candidate should be referred to the Recruiting Manager.

दी गई जानकारी का विश्लेषण करें और उस प्रश्न का उत्तर दें जो निम्न प्रकार है।

एक सॉफ्टवेयर डेवलपर के चयन के मानदंड निम्नानुसार दिए गए हैं:

उम्मीदवार को चाहिए:

1. कम से कम 60% अंकों के साथ विज्ञान या इंजीनियरिंग में स्नातक हो।
2. सॉफ्टवेयर डेवलपमेंट में उद्योग का 1 वर्ष से अधिक का अनुभव हो।
3. आवेदन की तिथि 18 से 27 वर्ष के बीच हो।

निम्नलिखित अपवाद लागू होते हैं:

A. यदि कोई उम्मीदवार उपरोक्त 2 को छोड़कर अन्य सभी मानदंडों को पूरा करता है, तो उम्मीदवार को प्रोग्राम मैनेजर के पास भेजा जाएगा।

B. एक उम्मीदवार जिसकी आयु 27 वर्ष से अधिक है, लेकिन 32 वर्ष से कम है, को भर्ती प्रबंधक के पास भेजा जाएगा।

मुर्तजा शेख 86% अंकों के साथ विज्ञान स्नातक हैं। उसने लगभग 6 महीने पहले एक प्रतिष्ठित फर्म के साथ एक सॉफ्टवेयर डेवलपर के रूप में काम करना शुरू कर दिया है। वह भौतिकी में स्वर्ण पदक विजेता हैं।

उसकी उम्र 22 वर्ष है।

इस उम्मीदवार के बारे में क्या निर्णय लिया जाना चाहिए?

Options :

1. * उम्मीदवार का चयन होना चाहिए।

2. * उम्मीदवार को खारिज कर दिया जाना चाहिए।
3. ✓ उम्मीदवार को प्रोग्राम मैनेजर के पास भेजा जाना चाहिए।
4. * उम्मीदवार को भर्ती प्रबंधक के पास भेजा जाना चाहिए।

Question Number : 17 Question Id : 54592740215 Question Type : MCQ Option Shuffling : Yes
Correct Marks : 1 Wrong Marks : 0.25

Disha is Kishore's daughter. Gauri is Jeevan's daughter. Gauri is Disha's mother. How is Jeevan related to Kishore?

Options :

1. * Father
2. ✓ Father-in-law
3. * Son-in-law
4. * Son

Question Number : 17 Question Id : 54592740215 Question Type : MCQ Option Shuffling : Yes
Correct Marks : 1 Wrong Marks : 0.25

दिशा, किशोर की बेटी हैं। गौरी, जीवन की बेटी है गौरी दिशा की माता हैं। जीवन, किशोर से कैसे संबंधित है?

Options :

1. * पिता
2. ✓ ससुर
3. * दामाद
4. * पुत्र

Question Number : 18 Question Id : 54592740216 Question Type : MCQ Option Shuffling : Yes
Correct Marks : 1 Wrong Marks : 0.25

In this question, a statement has been given, followed by two assumptions numbered I and II. Analyse the two assumptions together and determine which of them is/are implicit in the statement.

Statements: “Buy milk of brand X, it is pure and healthy because this milk comes directly from the farm to your doorstep.” – an advertisement.

Assumptions:

- I. If a product comes directly from the source or point of production to the point of consumption, it remains pure and healthy.
- II. No other milk company can deliver milk directly from the farm to your doorstep.

Options :

- 1. ✓ Only assumption I is implicit.
- 2. ✗ Only assumption II is implicit.
- 3. ✗ Neither assumption I nor assumption II is implicit.
- 4. ✗ Both the assumptions are implicit.

Question Number : 18 Question Id : 54592740216 Question Type : MCQ Option Shuffling : Yes

Correct Marks : 1 Wrong Marks : 0.25

इस प्रश्न में, एक कथन दिया गया है, जिसके बाद I और II की दो धारणाएँ हैं। एक साथ दोनों धारणाओं का विश्लेषण करें और निर्धारित करें कि उनमें से कौन सा/से कथन में निहित है।

कथन: "ब्रांड X का दूध खरीदें, यह शुद्ध और स्वस्थ है क्योंकि यह दूध खेत से सीधे आपके दरवाजे पर आता है।" - एक विज्ञापन

धारणाएँ:

- I. यदि कोई उत्पाद उत्पादन के स्रोत या बिंदु से सीधे उपभोग के बिंदु पर आता है, तो यह शुद्ध और स्वस्थ रहता है।
- II. कोई भी दूध कंपनी खेत से सीधे आपके घर तक दूध नहीं पहुंचा सकती है।

Options :

1. ✓ केवल धारणा I निहित है।
2. ✗ केवल धारणा II निहित है।
3. ✗ न तो धारणा I और न ही धारणा II निहित है।
4. ✗ दोनों धारणाएं निहित हैं।

Question Number : 19 Question Id : 54592740217 Question Type : MCQ Option Shuffling : Yes

Correct Marks : 1 Wrong Marks : 0.25

In this question, two statements have been given labelled as Assertion (A) and Reason (R). Analyse both the statements and determine whether they are correct and whether the reason correctly explains the assertion.

Assertion (A): Clothes dry faster on a windy day.

Reason (R): The evaporation rate is low on a windy day.

Options :

1. * Both A and R are true and R is the correct explanation of A.
2. * Both A and R are true but R is not the correct explanation of A.
3. ✓ A is true but R is false.
4. * A is false but R is true.

Question Number : 19 Question Id : 54592740217 Question Type : MCQ Option Shuffling : Yes
Correct Marks : 1 Wrong Marks : 0.25

इस प्रश्न में, दो कथनों को अभिकथन (A) और कारण (R) के रूप में लेबल दिया गया है। दोनों कथनों का विश्लेषण करें और निर्धारित करें कि क्या वे सही हैं और क्या कारण से सही है कि वे बताएं।

अभिकथन (A): कपड़े एक तेज़ हवादार दिन सूख जाते हैं।

कारण (R): वाष्पीकरण की दर एक हवादार दिन पर कम होती है।

Options :

1. * A और R दोनों सत्य हैं और R, A की सत्य व्याख्या है।
2. * A और R दोनों सत्य हैं लेकिन R, A की सत्य व्याख्या नहीं है।
3. ✓ A सत्य है लेकिन R असत्य है।
4. * A असत्य है लेकिन R सत्य है।

Question Number : 20 Question Id : 54592740218 Question Type : MCQ Option Shuffling : Yes
Correct Marks : 1 Wrong Marks : 0.25

Complete the following number series:

13, 25, 41, 61, _____

Options :

1. * 78
2. * 82

3. ✓ 85

4. ✗ 96

Question Number : 20 Question Id : 54592740218 Question Type : MCQ Option Shuffling : Yes

Correct Marks : 1 Wrong Marks : 0.25

निम्नलिखित संख्या श्रृंखला को पूरा करें:

13, 25, 41, 61, _____

Options :

1. ✗ 78

2. ✗ 82

3. ✓ 85

4. ✗ 96

Mental Ability2

Group Number :	2
Group Id :	5459271992
Group Maximum Duration :	0
Group Minimum Duration :	0
Show Attended Group? :	No
Edit Attended Group? :	No
Break time:	0
Group Marks:	20
Is this Group for Examiner?:	No
Revisit allowed for group Instructions? :	Yes
Maximum Instruction Time:	0
Minimum Instruction Time:	0

Mental Ability2

Section Id :	5459271992
Section Number :	1
Section type :	Online
Mandatory or Optional:	Mandatory
Number of Questions:	20
Number of Questions to be attempted:	20
Section Marks:	20

Sub-Section Number: 1
Sub-Section Id: 5459272390
Question Shuffling Allowed : Yes

Question Number : 21 Question Id : 54592740219 Question Type : MCQ Option Shuffling : Yes
Correct Marks : 1 Wrong Marks : 0.25

Find the wrong number in the following number series:

15, 48, 147, 444, 1337

Options :

1. ✘ 48

2. ✘ 147

3. ✘ 444

4. ✔ 1337

Question Number : 21 Question Id : 54592740219 Question Type : MCQ Option Shuffling : Yes
Correct Marks : 1 Wrong Marks : 0.25

निम्नलिखित संख्या श्रृंखला में से गलत संख्या ज्ञात करें:

15, 48, 147, 444, 1337

Options :

1. ✘ 48

2. ✘ 147

3. ✘ 444

4. ✔ 1337

Question Number : 22 Question Id : 54592740220 Question Type : MCQ Option Shuffling : Yes
Correct Marks : 1 Wrong Marks : 0.25

Select the option that is related to the third number on the same basis as the second number is related to the first number.

11 : 132 :: 19 : ?

Options :

1. ✖ 365

2. ✔ 380

3. ✖ 372

4. ✖ 361

Question Number : 22 Question Id : 54592740220 Question Type : MCQ Option Shuffling : Yes

Correct Marks : 1 Wrong Marks : 0.25

उस विकल्प का चयन करें जो तीसरी संख्या से उसी प्रकार से संबंधित है जिस प्रकार से पहली संख्या दूसरी संख्या से संबंधित है।

11 : 132 :: 19 : ?

Options :

1. ✖ 365

2. ✔ 380

3. ✖ 372

4. ✖ 361

Question Number : 23 Question Id : 54592740221 Question Type : MCQ Option Shuffling : Yes

Correct Marks : 1 Wrong Marks : 0.25

Find the missing number in the following number series.

95, 120, _____, 200, 255, 320

Options :

1. ✖ 175

2. ✖ 145

3. ✖ 165

4. ✔ 155

Question Number : 23 Question Id : 54592740221 Question Type : MCQ Option Shuffling : Yes

Correct Marks : 1 Wrong Marks : 0.25

निम्नलिखित संख्या श्रृंखला में लुप्त संख्या को ज्ञात करें।

95, 120, _____, 200, 255, 320

Options :

1. ✖ 175

2. ✖ 145

3. ✖ 165

4. ✔ 155

Question Number : 24 Question Id : 54592740222 Question Type : MCQ Option Shuffling : Yes

Correct Marks : 1 Wrong Marks : 0.25

Find the missing number in the following number series.

208, 231, _____, 283, 312, 343

Options :

1. ✖ 262

2. ✖ 242

3. ✔ 256

4. ✖ 267

Question Number : 24 Question Id : 54592740222 Question Type : MCQ Option Shuffling : Yes

Correct Marks : 1 Wrong Marks : 0.25

निम्नलिखित संख्या श्रृंखला में लुप्त संख्या को ज्ञात करें।

208, 231, _____, 283, 312, 343

Options :

1. ✖ 262

2. ✖ 242

3. ✔ 256

4. ✖ 267

Question Number : 25 Question Id : 54592740223 Question Type : MCQ Option Shuffling : Yes

Correct Marks : 1 Wrong Marks : 0.25

Find the missing number in the following number series.

192, 216, _____, 300, 360, 432

Options :

1. ✖ 238

2. ✖ 264

3. ✖ 227

4. ✔ 252

Question Number : 25 Question Id : 54592740223 Question Type : MCQ Option Shuffling : Yes

Correct Marks : 1 Wrong Marks : 0.25

निम्नलिखित संख्या श्रृंखला में लुप्त संख्या को ज्ञात करें।

192, 216, _____, 300, 360, 432

Options :

1. ✖ 238

2. ✖ 264

3. ✖ 227

4. ✔ 252

Question Number : 26 Question Id : 54592740224 Question Type : MCQ Option Shuffling : Yes

Correct Marks : 1 Wrong Marks : 0.25

If $x - 5 > y + 3$, then which of the following is true?

Options :

1. ✔ $x - y > 8$

2. ✖ $x + y < 8$

3. ✖ $x - y < 8$

4. ✖ $x + y > 8$

Question Number : 26 Question Id : 54592740224 Question Type : MCQ Option Shuffling : Yes

Correct Marks : 1 Wrong Marks : 0.25

यदि $x - 5 > y + 3$ है, तो निम्नलिखित में से कौन सा सत्य है?

Options :

1. ✔ $x - y > 8$

2. ✖ $x + y < 8$

3. ✖ $x - y < 8$

4. ✖ $x + y > 8$

Question Number : 27 Question Id : 54592740225 Question Type : MCQ Option Shuffling : Yes

Correct Marks : 1 Wrong Marks : 0.25

Akansha cut a cake into two halves and cuts one half into smaller pieces of equal size. Each of the small pieces is 15 grams in weight. If she has eight pieces of the cake in all with her, how heavy was the original cake?

Note: For this question, discrepancy is found in question/answer. So, this question is ignored for all candidates.

Options :

1. 240 g

2. 210 g

3. 280 g

4. 290 g

Question Number : 27 Question Id : 54592740225 Question Type : MCQ Option Shuffling : Yes

Correct Marks : 1 Wrong Marks : 0.25

आकांशा ने एक केक को दो हिस्सों में काटा, और उसमें से हर आधे हिस्से को बराबर आकार के छोटे टुकड़ों में काटा। छोटे टुकड़ों में से प्रत्येक वजन में 15 ग्राम है। यदि उसके पास केक के कुल आठ टुकड़े हैं, तो मूल केक कितना भारी था?

Note: For this question, discrepancy is found in question/answer. So, this question is ignored for all candidates.

Options :

1. 240 g

2. 210 g

3. 280 g

4. 290 g

Question Number : 28 Question Id : 54592740226 Question Type : MCQ Option Shuffling : Yes

Correct Marks : 1 Wrong Marks : 0.25

The cost of 18 tables and 24 chairs is Rs 7356. What is the cost of 3 tables and 4 chairs?

Options :

1. * Rs 1839

2. ✓ Rs 1226

3. * Rs 1532

4. * Rs 1452

Question Number : 28 Question Id : 54592740226 Question Type : MCQ Option Shuffling : Yes

Correct Marks : 1 Wrong Marks : 0.25

यदि 18 टेबल और 24 कुर्सियों की कीमत 7356 रुपए है। तो 3 टेबल और 4 कुर्सियों की कीमत क्या है?

Options :

1. ✖ 1839 रुपए
2. ✔ 1226 रुपए
3. ✖ 1532 रुपए
4. ✖ 1452 रुपए

Question Number : 29 Question Id : 54592740227 Question Type : MCQ Option Shuffling : Yes

Correct Marks : 1 Wrong Marks : 0.25

Which two signs should be interchanged to make the below equation mathematically correct?

$$28 \times 10 + 420 \div (7 - 5) = 30$$

Options :

1. ✖ $\div, +$
2. ✔ $\times, -$
3. ✖ $\times, +$
4. ✖ $+, -$

Question Number : 29 Question Id : 54592740227 Question Type : MCQ Option Shuffling : Yes

Correct Marks : 1 Wrong Marks : 0.25

नीचे दिए गए समीकरण को गणितीय रूप से सही बनाने के लिए, किन दो चिन्हों को परस्पर स्थानांतरित किया जाना चाहिए?

$$28 \times 10 + 420 \div (7 - 5) = 30$$

Options :

1. ✖ $\div, +$
2. ✔ $\times, -$

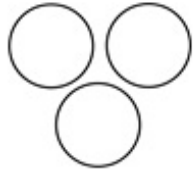
3. ✖ ×, +

4. ✖ +, -

Question Number : 30 Question Id : 54592740228 Question Type : MCQ Option Shuffling : Yes

Correct Marks : 1 Wrong Marks : 0.25

The Venn diagram given in the question represents the relationship between the items given in which of the following options?




Options :

1. ✖ water, liquids and ice
2. ✔ lions, leopards and herbivores
3. ✖ fathers, teachers and poets
4. ✖ spinach, potatoes and vegetables

Question Number : 30 Question Id : 54592740228 Question Type : MCQ Option Shuffling : Yes

Correct Marks : 1 Wrong Marks : 0.25

प्रश्न में दिया गया वेन आरेख निम्नलिखित में से किस विकल्प में दिए गए वस्तुओं के बीच के संबंध को दर्शाता है?



Options :

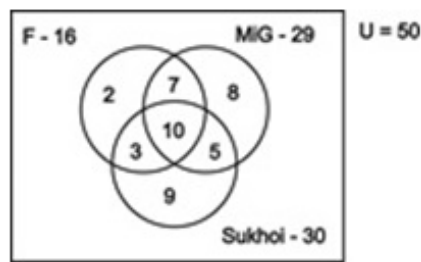
1. ✖ पानी, द्रव और बर्फ
2. ✔ शेर, तेंदुआ और शाकाहारी
3. ✖ पिता, शिक्षक और कवि

4. * पालक, आलू और सब्जियाँ

Question Number : 31 Question Id : 54592740229 Question Type : MCQ Option Shuffling : Yes

Correct Marks : 1 Wrong Marks : 0.25

In a survey of the air forces of 50 countries it was found that they have fighter planes of different makes. The results of this survey are shown in the following Venn diagram. The air forces of how many countries have F-16s or MIG-29s but not Sukhoi-30s?



Options :

1. * 35

2. ✓ 17

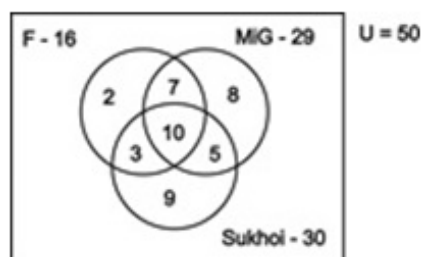
3. * 10

4. * 18

Question Number : 31 Question Id : 54592740229 Question Type : MCQ Option Shuffling : Yes

Correct Marks : 1 Wrong Marks : 0.25

50 देशों की वायु सेनाओं के एक सर्वेक्षण में यह पाया गया कि उनके पास विभिन्न प्रकार के लड़ाकू विमान हैं। इस सर्वेक्षण के परिणाम निम्नलिखित वेन आरेख में दिखाए गए हैं। कितने देशों की वायु सेना के पास F-16 या MIG-29 हैं, लेकिन सुखोई -30 नहीं है?



Options :

1. ✖ 35
2. ✔ 17
3. ✖ 10
4. ✖ 18

Question Number : 32 Question Id : 54592740230 Question Type : MCQ Option Shuffling : Yes
Correct Marks : 1 Wrong Marks : 0.25

In this question, two statements are given followed by an inference. Analyse the statements and the inference and determine whether the given inference can be drawn from the statements.

Statements:

- I. A good leader leads from the front and creates more leaders.
- II. Indu, who works shoulder-to-shoulder with other employees, creates opportunities for others to become leaders.

Inference: Indu is a good leader.

Options :

1. ✔ The given inference is definitely true.
2. ✖ The given inference is definitely false.
3. ✖ The given inference could be true or false.
4. ✖ This inference cannot be drawn from the given statements.

Question Number : 32 Question Id : 54592740230 Question Type : MCQ Option Shuffling : Yes
Correct Marks : 1 Wrong Marks : 0.25

इस प्रश्न में, दो कथनों के बाद एक अनुमान लगाया जाता है। कथनों और अनुमानों का विश्लेषण करें और निर्धारित करें कि दिए गए अनुमानों को कथनों से निकाला जा सकता है या नहीं।

कथन:

- I. एक अच्छा नेता नेतृत्व करता है और अधिक नेता बनाता है।
- II. अन्य कर्मचारियों के साथ कंधे से कंधा मिलाकर काम करने वाली इंदु दूसरों के नेता बनने के अवसर पैदा करती हैं।

अनुमान: इंदु एक अच्छी नेता हैं।

Options :

1. ✓ दिया गया अनुमान सत्य है।
2. * दिया गया अनुमान निश्चित रूप से असत्य है।
3. * दिया गया अनुमान सत्य या असत्य हो सकता है।
4. * यह अनुमान दिए गए कथन में लागू नहीं होता

Question Number : 33 Question Id : 54592740231 Question Type : MCQ Option Shuffling : Yes

Correct Marks : 1 Wrong Marks : 0.25

Starting from his home, Shivam went 3 km towards East. Then, he turned right and went for 4 km straight. Then, he turned right and went straight for 3 km. Finally, he turned right, went for 5 km and stopped. How far is Shivam from his home?

Options :

1. ✓ 1 km
2. * 0 km
3. * 3 km

4. ✖ 15 km

Question Number : 33 Question Id : 54592740231 Question Type : MCQ Option Shuffling : Yes
Correct Marks : 1 Wrong Marks : 0.25

अपने घर से शुरू होकर, शिवम पूर्व की ओर 3 km गया। फिर, वह दाएं मुड़ा और सीधे 4 km चला गया। फिर, वह दाएं मुड़ा और सीधे 3 km चला गया। आखिरकार, वह 5 km चला और रुक गया। शिवम अपने घर से कितनी दूर है?

Options :

1. ✔ 1 km

2. ✖ 0 km

3. ✖ 3 km

4. ✖ 15 km

Question Number : 34 Question Id : 54592740232 Question Type : MCQ Option Shuffling : Yes
Correct Marks : 1 Wrong Marks : 0.25

Which of the following options is the wrong figure in the series?

x y w	x y w w	y x	x y w w	y x	x y w
a	b	c	d		

Options :

1. ✖ A

2. ✖ B

3. ✖ C

4. ✔ D

Question Number : 34 Question Id : 54592740232 Question Type : MCQ Option Shuffling : Yes
Correct Marks : 1 Wrong Marks : 0.25

निम्नलिखित में से कौन सी विकल्प श्रृंखला में गलत आकृति है?

x y w	x y w w	y x	x y w w	x y w
	a	b	c	d

Options :

1. ✘ A

2. ✘ B

3. ✘ C

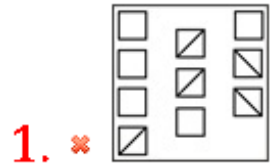
4. ✔ D

Question Number : 35 Question Id : 54592740233 Question Type : MCQ Option Shuffling : Yes

Correct Marks : 1 Wrong Marks : 0.25

Out of the given options, three are similar in a certain manner. However, one option is NOT like the other three. Select the option which is different from the rest.

Options :



4. ✓



Question Number : 35 Question Id : 54592740233 Question Type : MCQ Option Shuffling : Yes

Correct Marks : 1 Wrong Marks : 0.25

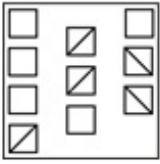
दिए गए विकल्पों में से, तीन एक निश्चित तरीके से समान हैं।

हालाँकि, एक विकल्प अन्य तीन की तरह नहीं है। उस विकल्प का

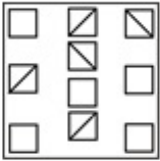
चयन करें जो अन्य से अलग है।

Options :

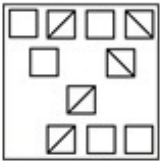
1. ✗



2. ✗



3. ✗



4. ✓

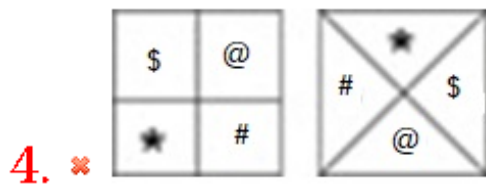
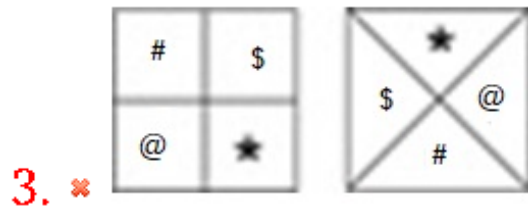
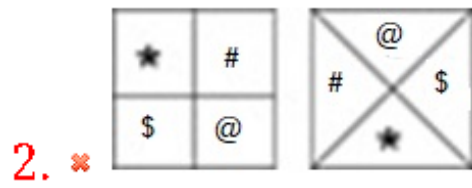
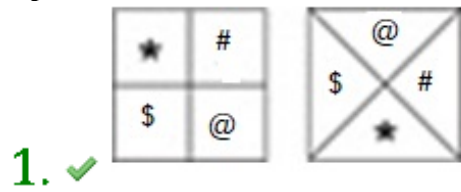


Question Number : 36 Question Id : 54592740234 Question Type : MCQ Option Shuffling : Yes

Correct Marks : 1 Wrong Marks : 0.25

Each option has a pair of figures. Three are similar in a certain manner. However, one option is NOT like the other three. Select the option which is different from the rest.

Options :

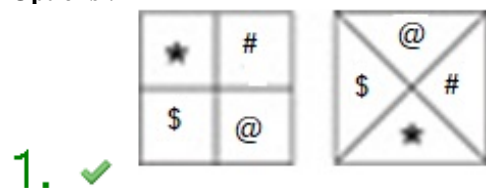


Question Number : 36 Question Id : 54592740234 Question Type : MCQ Option Shuffling : Yes

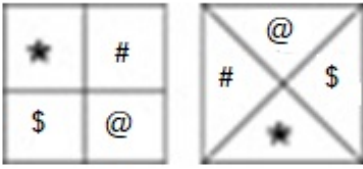
Correct Marks : 1 Wrong Marks : 0.25

प्रत्येक विकल्प में आकारों की एक जोड़ी है। तीन एक निश्चित तरीके से समान हैं। हालाँकि, एक विकल्प अन्य तीन की तरह नहीं है। उस विकल्प का चयन करें जो अन्य से अलग है।

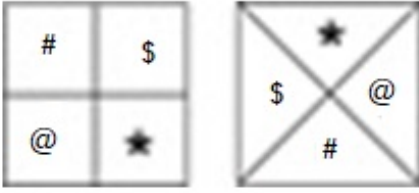
Options :




2. ✘



3. ✘

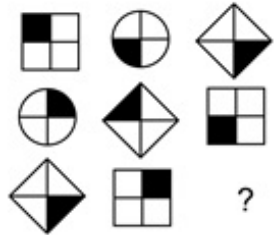


4. ✘



Question Number : 37 Question Id : 54592740235 Question Type : MCQ Option Shuffling : Yes
 Correct Marks : 1 Wrong Marks : 0.25

Which of the following answer figure completes the pattern shown in the question figure?



Options :

1. ✘



2. ✔



3. ✖

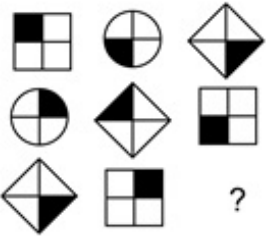


4. ✖



Question Number : 37 Question Id : 54592740235 Question Type : MCQ Option Shuffling : Yes
Correct Marks : 1 Wrong Marks : 0.25

निम्नलिखित में से कौन सी उत्तर आकृति प्रश्न आकृति में दर्शाए गए पैटर्न को पूरा करेगी?



Options :

1. ✖



2. ✔



3. ✖





4. ✖

Question Number : 38 Question Id : 54592740236 Question Type : MCQ Option Shuffling : Yes
Correct Marks : 1 Wrong Marks : 0.25

If a cube is painted blue on two opposite sides, red on another two opposite sides and green on the last two opposite sides and cut into 64 smaller cubes, then how many such smaller cubes will have one side red and one side blue and no paint on any other sides?

Options :

1. ✖ 4

2. ✔ 8

3. ✖ 6

4. ✖ 12

Question Number : 38 Question Id : 54592740236 Question Type : MCQ Option Shuffling : Yes
Correct Marks : 1 Wrong Marks : 0.25

यदि एक घन की दो विपरित पक्षों को नीले रंग से रंगा जाता है, और अन्य दो विपरित पक्षों पर लाल और बचे हुए दो विपरित पक्षों को हरे रंग से रंगा जाता है और उसे 64 छोटी घनाकृतियाँ में काट दिया जाता है, तो ऐसी कितनी छोटी घनाकृतियों में एक तरफ लाल और एक तरफ नीला रंग होगा और अन्य किसी भी पक्ष पर कोई रंग नहीं होगा?

Options :

1. ✖ 4

2. ✔ 8

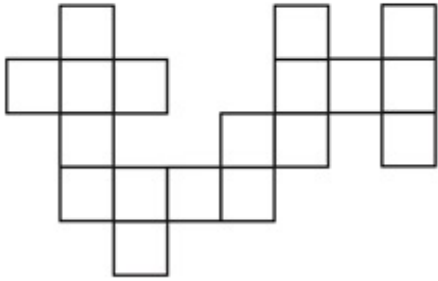
3. ✖ 6

4. ✖ 12

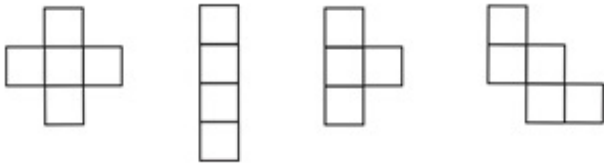
Question Number : 39 Question Id : 54592740237 Question Type : MCQ Option Shuffling : Yes

Correct Marks : 1 Wrong Marks : 0.25

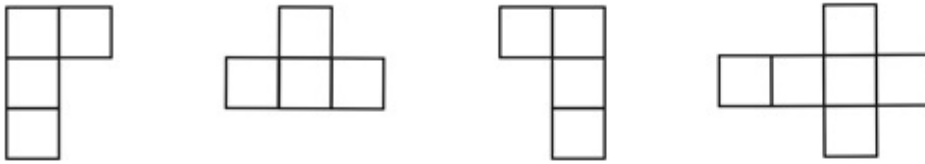
Parts given in which option can be joined to create the pattern given in the question figure?



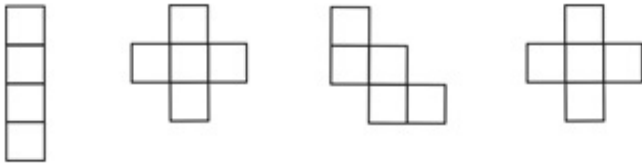
Options :



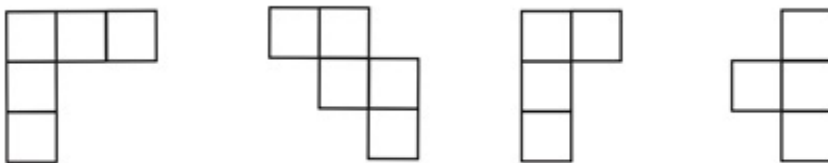
1. ✘



2. ✔



3. ✘

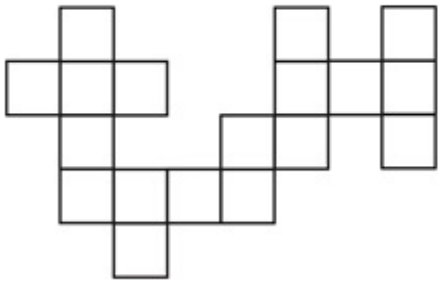


4. ✘

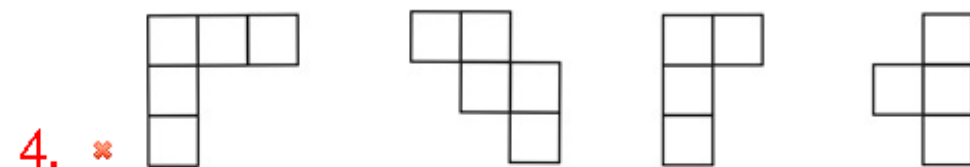
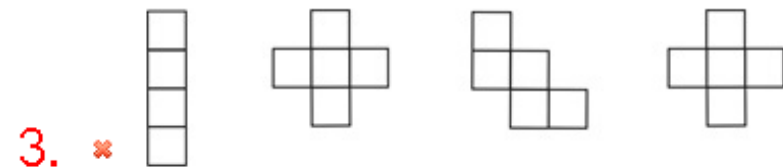
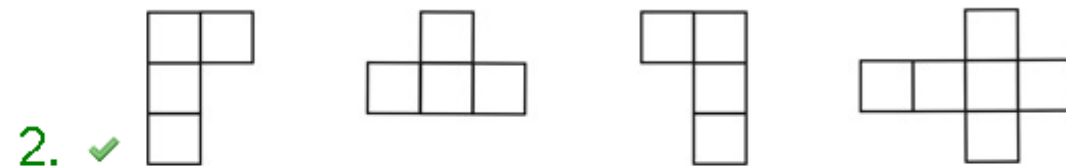
Question Number : 39 Question Id : 54592740237 Question Type : MCQ Option Shuffling : Yes

Correct Marks : 1 Wrong Marks : 0.25

प्रश्न आकृति में दिए गए पैटर्न को बनाने के लिए कौन से विकल्प के हिस्से जोड़े जा सकते हैं?

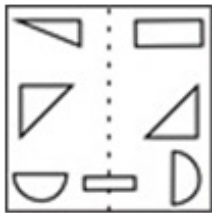


Options :

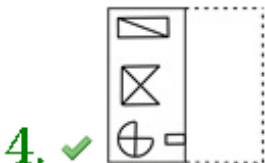
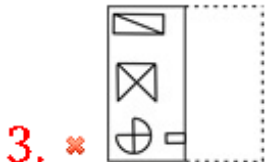
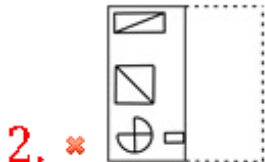
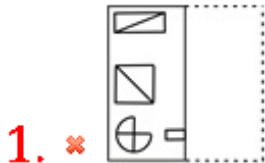


Question Number : 40 Question Id : 54592740238 Question Type : MCQ Option Shuffling : Yes
 Correct Marks : 1 Wrong Marks : 0.25

Find out from amongst the four alternatives as to how the pattern would appear when the transparent sheet is folded at the dotted line.

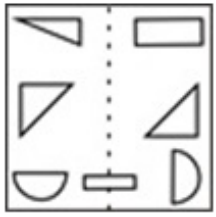


Options :

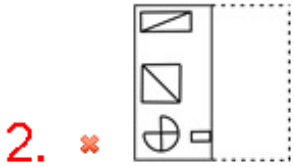


Question Number : 40 Question Id : 54592740238 Question Type : MCQ Option Shuffling : Yes
 Correct Marks : 1 Wrong Marks : 0.25

चार विकल्पों में से यह ज्ञात करें कि बिंदूदार रेखा पर पारदर्शी कागज को मोड़ने पर पैटर्न कैसा दिखाई देगा।



Options :



General Awareness1

Group Number :	3
Group Id :	5459271993
Group Maximum Duration :	0
Group Minimum Duration :	0
Show Attended Group? :	No
Edit Attended Group? :	No
Break time:	0

Group Marks:	20
Is this Group for Examiner?:	No
Revisit allowed for group Instructions? :	Yes
Maximum Instruction Time:	0
Minimum Instruction Time:	0

General Awareness1

Section Id :	5459271993
Section Number :	1
Section type :	Online
Mandatory or Optional:	Mandatory
Number of Questions:	20
Number of Questions to be attempted:	20
Section Marks:	20

Sub-Section Number:	1
Sub-Section Id:	5459272391
Question Shuffling Allowed :	Yes

Question Number : 41 Question Id : 54592740239 Question Type : MCQ Option Shuffling : Yes
Correct Marks : 1 Wrong Marks : 0.25

Which of these musical instruments is a mud pot with a narrow mouth used for producing fast rhythmic patterns?

Options :

1. ✖ Tabla
2. ✔ Ghatam
3. ✖ Mridangam
4. ✖ Jaltarangam

Question Number : 41 Question Id : 54592740239 Question Type : MCQ Option Shuffling : Yes
Correct Marks : 1 Wrong Marks : 0.25

इन वाद्ययंत्रों में से कौन सा एक मिट्टी का घड़ा है जिसमें तेज लयबद्ध पैटर्न उत्पन्न करने के लिए एक संकीर्ण मुंह का उपयोग किया जाता है?

Options :

1. ✖ तबला
2. ✔ घातम

3. * मृदंग

4. * जलतरंगम

Question Number : 42 Question Id : 54592740240 Question Type : MCQ Option Shuffling : Yes

Correct Marks : 1 Wrong Marks : 0.25

Theyyam includes dance, mime and music performed with headgear and other heavy ornaments originates from which of these states?

Options :

1. * Rajasthan

2. * Maharashtra

3. * Jammu and Kashmir

4. ✓ Kerala

Question Number : 42 Question Id : 54592740240 Question Type : MCQ Option Shuffling : Yes

Correct Marks : 1 Wrong Marks : 0.25

इनमें से किस राज्य से तेय्यम उद्भूत होता है जिसमें नृत्य, माइम और संगीत शामिल हैं, जो हेडगेअर और अन्य भारी आभूषणों के साथ किए जाते हैं?

Options :

1. * राजस्थान

2. * महाराष्ट्र

3. * जम्मू और कश्मीर

4. ✓ केरल

Question Number : 43 Question Id : 54592740241 Question Type : MCQ Option Shuffling : Yes

Correct Marks : 1 Wrong Marks : 0.25

Which of these is the Tibetan New Year mainly celebrated in Ladakh either at the end of January or at the beginning of February?

Options :

1. ✓ Losar
2. ✖ Shivrathri
3. ✖ Easter
4. ✖ Lent

Question Number : 43 Question Id : 54592740241 Question Type : MCQ Option Shuffling : Yes
Correct Marks : 1 Wrong Marks : 0.25

इनमें से कौन सा तिब्बती नव वर्ष मुख्यतः लद्दाख में जनवरी के अंत में या फरवरी की शुरुआत में मनाया जाता है?

Options :

1. ✓ लोसर
2. ✖ शिवरात्रि
3. ✖ ईस्टर
4. ✖ लेंट

Question Number : 44 Question Id : 54592740242 Question Type : MCQ Option Shuffling : Yes
Correct Marks : 1 Wrong Marks : 0.25

The Cellular Jail is located in which of these places?

Options :

1. ✖ Daman and Diu
2. ✓ Andaman and Nicobar
3. ✖ Lakshadweep
4. ✖ Srilanka

Question Number : 44 Question Id : 54592740242 Question Type : MCQ Option Shuffling : Yes
Correct Marks : 1 Wrong Marks : 0.25

सेल्यूलर जेल इनमें से किस स्थान में स्थित है?

Options :

1. ✖ दमन और दीव
2. ✓ अण्डमान और निकोबार

3. * लक्षद्वीप

4. * श्रीलंका

Question Number : 45 Question Id : 54592740243 Question Type : MCQ Option Shuffling : Yes

Correct Marks : 1 Wrong Marks : 0.25

Which was the first Private sector bank established after the Economic Liberalization of 1991?

Options :

1. ✓ Axis Bank

2. * ICICI Bank

3. * Indian Overseas Bank

4. * HDFC Bank

Question Number : 45 Question Id : 54592740243 Question Type : MCQ Option Shuffling : Yes

Correct Marks : 1 Wrong Marks : 0.25

1991 के आर्थिक उदारीकरण के बाद स्थापित पहला निजी क्षेत्र का बैंक कौन सा था?

Options :

1. ✓ ऐक्सिस बैंक

2. * आईसीआईसीआई बैंक

3. * इंडियन ओवरसीज़ बैंक

4. * एचडीएफसी बैंक

Question Number : 46 Question Id : 54592740244 Question Type : MCQ Option Shuffling : Yes

Correct Marks : 1 Wrong Marks : 0.25

Which of these is not a factor used in the determination of Minimum Support Price?

Options :

1. ✓ Revenue generated from Tourism

2. * Trends in market prices

3. * Effect on cost of living

4. * Parity between prices paid and prices received by the farmers.

Question Number : 46 Question Id : 54592740244 Question Type : MCQ Option Shuffling : Yes
Correct Marks : 1 Wrong Marks : 0.25

निम्न में से कौन सा कारक न्यूनतम समर्थन मूल्य के निर्धारण में प्रयुक्त नहीं किया जाता है?

Options :

1. ✓ पर्यटन से उत्पन्न राजस्व
2. * बाजार की कीमतों में रुझान
3. * जीवन यापन की लागत पर प्रभाव
4. * किसानों द्वारा प्राप्त कीमतों और कीमतों के बीच समानता।

Question Number : 47 Question Id : 54592740245 Question Type : MCQ Option Shuffling : Yes
Correct Marks : 1 Wrong Marks : 0.25

Which of these has a lower Nominal GDP than India in 2018?

Options :

1. * Japan
2. * Germany
3. * China
4. ✓ Russia

Question Number : 47 Question Id : 54592740245 Question Type : MCQ Option Shuffling : Yes
Correct Marks : 1 Wrong Marks : 0.25

2018 में भारत की तुलना में इनमें से किस का नाममात्र GDP है?

Options :

1. * जापान
2. * जर्मनी
3. * चीन
4. ✓ रूस

Question Number : 48 Question Id : 54592740246 Question Type : MCQ Option Shuffling : Yes

Correct Marks : 1 Wrong Marks : 0.25

Which of these can split light into its different colour components?

Options :

1. ✖ Pyramid
2. ✖ Pentagon
3. ✔ Prism
4. ✖ Cuboid

Question Number : 48 Question Id : 54592740246 Question Type : MCQ Option Shuffling : Yes

Correct Marks : 1 Wrong Marks : 0.25

इनमें से कौन सा प्रकाश को अपने विभिन्न रंग घटकों में विभाजित कर सकता है?

Options :

1. ✖ पिरामिड
2. ✖ पंचभुज
3. ✔ प्रिज़्म
4. ✖ घनाभ

Question Number : 49 Question Id : 54592740247 Question Type : MCQ Option Shuffling : Yes

Correct Marks : 1 Wrong Marks : 0.25

A person weighs more on earth than on the moon because of the difference in _____.

Options :

1. ✖ distance
2. ✖ speed
3. ✖ time
4. ✔ gravity

Question Number : 49 Question Id : 54592740247 Question Type : MCQ Option Shuffling : Yes

Correct Marks : 1 Wrong Marks : 0.25

_____ में अंतर के कारण एक व्यक्ति चंद्रमा पर पृथ्वी की तुलना में अधिक वजन वाला होता है।

Options :

1. ✖ दूरी
2. ✖ गति
3. ✖ समय
4. ✔ गुरुत्वाकर्षण

Question Number : 50 Question Id : 54592740248 Question Type : MCQ Option Shuffling : Yes

Correct Marks : 1 Wrong Marks : 0.25

Dry ice is _____.

Options :

1. ✖ solid oxygen
2. ✖ solid nitrogen
3. ✔ solid carbon dioxide
4. ✖ solid water

Question Number : 50 Question Id : 54592740248 Question Type : MCQ Option Shuffling : Yes

Correct Marks : 1 Wrong Marks : 0.25

सूखी बर्फ _____ है।

Options :

1. ✖ ठोस ऑक्सीजन
2. ✖ ठोस नाइट्रोजन
3. ✔ ठोस कार्बन डाइऑक्साइड
4. ✖ ठोस पानी

Question Number : 51 Question Id : 54592740249 Question Type : MCQ Option Shuffling : Yes

Correct Marks : 1 Wrong Marks : 0.25

Cabbage is which part of the plant?

Options :

1. ✓ Bud
2. ✗ Stem
3. ✗ Fruit
4. ✗ Leaves

Question Number : 51 Question Id : 54592740249 Question Type : MCQ Option Shuffling : Yes
Correct Marks : 1 Wrong Marks : 0.25

गोभी पौधे का कौन सा भाग है?

Options :

1. ✓ कली
2. ✗ तना
3. ✗ फल
4. ✗ पत्ते

Question Number : 52 Question Id : 54592740250 Question Type : MCQ Option Shuffling : Yes
Correct Marks : 1 Wrong Marks : 0.25

Which of these belongs to the category of crustaceans?

Options :

1. ✓ Prawn
2. ✗ Chicken
3. ✗ Goat
4. ✗ Sheep

Question Number : 52 Question Id : 54592740250 Question Type : MCQ Option Shuffling : Yes
Correct Marks : 1 Wrong Marks : 0.25

इनमें से कौन क्रस्टेशिया की श्रेणी से संबंधित है?

Options :

1. ✓ झींगा
2. ✗ मुर्गी
3. ✗ बकरा

4. * भेड़

Question Number : 53 Question Id : 54592740251 Question Type : MCQ Option Shuffling : Yes
Correct Marks : 1 Wrong Marks : 0.25

The process by which radiation from a planet's atmosphere warms the planet's surface to a temperature above what it would be without this atmosphere is called as _____.

Options :

1. * Global warming
2. * Blue ocean effect
3. * Red sea effect
4. ✓ Greenhouse effect

Question Number : 53 Question Id : 54592740251 Question Type : MCQ Option Shuffling : Yes
Correct Marks : 1 Wrong Marks : 0.25

एक प्रक्रिया जिसके द्वारा किसी ग्रह के वायुमंडल से विकिरण ग्रह की सतह को इस तापमान पर गर्म करता है कि वह इस वायुमंडल के बिना केसा हो जायेगा, इसे _____ कहा जाता है।

Options :

1. * भूमंडलीय ऊष्मीकरण
2. * नीला सागर प्रभाव
3. * लाल समुद्री प्रभाव
4. ✓ ग्रीनहाउस प्रभाव

Question Number : 54 Question Id : 54592740252 Question Type : MCQ Option Shuffling : Yes
Correct Marks : 1 Wrong Marks : 0.25

Which of these diseases is not spread because of open defecation?

Options :

1. * Diarrhoea
2. * Typhoid

3. ✓ Malaria

4. ✗ Hepatitis

Question Number : 54 Question Id : 54592740252 Question Type : MCQ Option Shuffling : Yes

Correct Marks : 1 Wrong Marks : 0.25

इनमें से कौन सी बीमारी अपमलन से नहीं फैलती है?

Options :

1. ✗ अतिसार

2. ✗ आंत्र ज्वर

3. ✓ मलेरिया

4. ✗ यकृत शोथ

Question Number : 55 Question Id : 54592740253 Question Type : MCQ Option Shuffling : Yes

Correct Marks : 1 Wrong Marks : 0.25

Which of these is the only Mammal that lays eggs?

Options :

1. ✓ Duck billed Platypus

2. ✗ Peacock

3. ✗ Ducks

4. ✗ Crocodile

Question Number : 55 Question Id : 54592740253 Question Type : MCQ Option Shuffling : Yes

Correct Marks : 1 Wrong Marks : 0.25

इनमें से कौन एकमात्र स्तनधारी है जो अंडे देता है?

Options :

1. ✓ बतख बिल प्लैटिपस

2. ✗ मोर

3. ✗ बतख

4. ✗ मगरमच्छ

Question Number : 56 Question Id : 54592740254 Question Type : MCQ Option Shuffling : Yes

Correct Marks : 1 Wrong Marks : 0.25

Tapti River finally ends into which of these?

Options :

1. ✓ Gulf of Khambat
2. ✗ Gulf of Kutch
3. ✗ Gulf of Mexico
4. ✗ Indian Ocean

Question Number : 56 Question Id : 54592740254 Question Type : MCQ Option Shuffling : Yes

Correct Marks : 1 Wrong Marks : 0.25

ताप्ती नदी अंत में इनमें से किस में समा जाती है?

Options :

1. ✓ खंभात की खाड़ी
2. ✗ कच्छ की खाड़ी
3. ✗ मेक्सिको की खाड़ी
4. ✗ हिंद महासागर

Question Number : 57 Question Id : 54592740255 Question Type : MCQ Option Shuffling : Yes

Correct Marks : 1 Wrong Marks : 0.25

Nepalese people call the Mount Everest by the name_____.

Options :

1. ✗ Titlis
2. ✓ Sagarmatha
3. ✗ Chomolungma
4. ✗ Kanchanjunga

Question Number : 57 Question Id : 54592740255 Question Type : MCQ Option Shuffling : Yes

Correct Marks : 1 Wrong Marks : 0.25

नेपाली लोग एवरेस्ट पर्वत को _____ नाम से पुकारते हैं।

Options :

1. ✖ टिटलिस
2. ✔ सगरमाथा
3. ✖ चोमोलंगमा
4. ✖ कंचनजंगा

Question Number : 58 Question Id : 54592740256 Question Type : MCQ Option Shuffling : Yes
Correct Marks : 1 Wrong Marks : 0.25

Which of these is a tidal estuary on the border of India and Pakistan?

Options :

1. ✔ Sir Creek
2. ✖ Similan Islands
3. ✖ Maliku Kandu
4. ✖ Indira Point

Question Number : 58 Question Id : 54592740256 Question Type : MCQ Option Shuffling : Yes
Correct Marks : 1 Wrong Marks : 0.25

इनमें से कौन सा भारत और पाकिस्तान की सीमा पर एक ज्वार का मुहाना है?

Options :

1. ✔ सिर क्रिक
2. ✖ सिमिलन द्वीप
3. ✖ मलिकू कंदू
4. ✖ इंदिरा पॉइंट

Question Number : 59 Question Id : 54592740257 Question Type : MCQ Option Shuffling : Yes
Correct Marks : 1 Wrong Marks : 0.25

Which of these soils is formed as a result of high leaching?

Options :

1. ✔ Laterite

2. * Black

3. * Alluvial

4. * Red

Question Number : 59 Question Id : 54592740257 Question Type : MCQ Option Shuffling : Yes
Correct Marks : 1 Wrong Marks : 0.25

उच्च लीचिंग के परिणामस्वरूप किस मृदा का निर्माण होता है?

Options :

1. ✓ लैटेराइट

2. * काली

3. * एल्यूवियल

4. * लाल

Question Number : 60 Question Id : 54592740258 Question Type : MCQ Option Shuffling : Yes
Correct Marks : 1 Wrong Marks : 0.25

Cashewnut grows best in which of these soils?

Options :

1. ✓ Laterite

2. * Black

3. * Alluvial

4. * Red

Question Number : 60 Question Id : 54592740258 Question Type : MCQ Option Shuffling : Yes
Correct Marks : 1 Wrong Marks : 0.25

इनमें से किस मृदा में काजू बहुत अच्छी तरह से उगता है?

Options :

1. ✓ लैटेराइट

2. * काली

3. * एल्यूवियल

4. * लाल

General Awareness2

Group Number :	4
Group Id :	5459271994
Group Maximum Duration :	0
Group Minimum Duration :	0
Show Attended Group? :	No
Edit Attended Group? :	No
Break time:	0
Group Marks:	20
Is this Group for Examiner?:	No
Revisit allowed for group Instructions? :	Yes
Maximum Instruction Time:	0
Minimum Instruction Time:	0

General Awareness2

Section Id :	5459271994
Section Number :	1
Section type :	Online
Mandatory or Optional:	Mandatory
Number of Questions:	20
Number of Questions to be attempted:	20
Section Marks:	20

Sub-Section Number:	1
Sub-Section Id:	5459272392
Question Shuffling Allowed :	Yes

Question Number : 61 Question Id : 54592740259 Question Type : MCQ Option Shuffling : Yes
Correct Marks : 1 Wrong Marks : 0.25

Most ocean currents in northern hemisphere move in clockwise manner and ocean currents in southern hemisphere move in an anti-clockwise manner due to ?

Options :

1. ✖ Edison's Theories
2. ✔ Coriolis force
3. ✖ Newton's Laws
4. ✖ Bernoulli's Principle

Question Number : 61 Question Id : 54592740259 Question Type : MCQ Option Shuffling : Yes
Correct Marks : 1 Wrong Marks : 0.25

निम्न में से एक के कारण, उत्तरी गोलार्ध में अधिकांश महासागरीय धाराएँ दक्षिणावर्त तरीके से चलती हैं और दक्षिणी गोलार्ध में महासागरीय धाराएँ वामावर्त तरीके से चलती हैं।

Options :

1. ✖ एडिसन के सिद्धांत
2. ✔ कॉरिऑलिस प्रभाव
3. ✖ न्यूटन के नियम
4. ✖ बर्नूली का सिद्धांत

Question Number : 62 Question Id : 54592740260 Question Type : MCQ Option Shuffling : Yes
Correct Marks : 1 Wrong Marks : 0.25

Which of these does not belong to the "Ancient East" category of civilizations?

Options :

1. ✖ Indus Valley
2. ✖ Pharonic Egypt
3. ✖ Mesopotamia
4. ✔ American Indian Lineage

Question Number : 62 Question Id : 54592740260 Question Type : MCQ Option Shuffling : Yes
Correct Marks : 1 Wrong Marks : 0.25

इनमें से कौन सी सभ्यताओं की "प्राचीन पूर्व" श्रेणी से संबंधित नहीं है?

Options :

1. ✖ सिंधु घाटी
2. ✖ फ़ारोनिक मिस्र
3. ✖ मेसोपोटामिया
4. ✔ अमेरिकी भारतीय वंश

Question Number : 63 Question Id : 54592740261 Question Type : MCQ Option Shuffling : Yes
Correct Marks : 1 Wrong Marks : 0.25

The smallest division of measure, approximately 1.6 mm, was marked on an ivory scale and was found during excavations at which of these places?

Options :

1. ✓ Lothal
2. ✘ Harappa
3. ✘ Mohenjo-daro
4. ✘ Dholavira

Question Number : 63 Question Id : 54592740261 Question Type : MCQ Option Shuffling : Yes
Correct Marks : 1 Wrong Marks : 0.25

माप का सबसे छोटा विभाजन, लगभग 1.6 mm, हाथीदांत पैमाने पर चिह्नित किया गया था और इनमें से किस स्थान पर खुदाई के दौरान पाया गया था?

Options :

1. ✓ लोथल
2. ✘ हड़प्पा
3. ✘ मोहन जोदड़ो
4. ✘ धोलावीरा

Question Number : 64 Question Id : 54592740262 Question Type : MCQ Option Shuffling : Yes
Correct Marks : 1 Wrong Marks : 0.25

Sangam literature mentions which of these dynasties?

Options :

1. ✘ Chalukya
2. ✘ Khilji
3. ✓ Chola
4. ✘ Maurya

Question Number : 64 Question Id : 54592740262 Question Type : MCQ Option Shuffling : Yes
Correct Marks : 1 Wrong Marks : 0.25

संगम साहित्य में किस राजवंश का उल्लेख है?

Options :

1. * चालुक्य
2. * खिलजी
3. ✓ चोल
4. * मौर्य

Question Number : 65 Question Id : 54592740263 Question Type : MCQ Option Shuffling : Yes
Correct Marks : 1 Wrong Marks : 0.25

Who was the last ruler of the Mauryan dynasty?

Options :

1. * Ashoka
2. * Bindusara
3. * Chandragupta Maurya
4. ✓ Brihadratha

Question Number : 65 Question Id : 54592740263 Question Type : MCQ Option Shuffling : Yes
Correct Marks : 1 Wrong Marks : 0.25

मौर्य वंश का अंतिम शासक कौन था?

Options :

1. * अशोक
2. * बिन्दुसार
3. * चंद्रगुप्त मौर्य
4. ✓ बृहद्रथ

Question Number : 66 Question Id : 54592740264 Question Type : MCQ Option Shuffling : Yes
Correct Marks : 1 Wrong Marks : 0.25

World Teacher Project was initiated by which of these eminent personalities?

Options :

1. * Raja Rammohan Roy
2. * Subhash Chandra Bose
3. * Maulana Azad
4. ✓ Annie Besant

Question Number : 66 Question Id : 54592740264 Question Type : MCQ Option Shuffling : Yes
Correct Marks : 1 Wrong Marks : 0.25

विश्व शिक्षक परियोजना की शुरुआत किस प्रख्यात व्यक्ति ने की थी?

Options :

1. * राजा राममोहन राय
2. * सुभाष चंद्र बोस
3. * मौलाना आज़ाद
4. ✓ एनी बेसेंट

Question Number : 67 Question Id : 54592740265 Question Type : MCQ Option Shuffling : Yes
Correct Marks : 1 Wrong Marks : 0.25

Which of these Assamese Freedom Fighters died while marching to hoist the Indian flag in Assam during the Quit India Movement?

Options :

1. ✓ Kanaklata Baruah
2. * Matangini Hazra
3. * Bhogeshwari Phuknani
4. * Bhikaji Cama

Question Number : 67 Question Id : 54592740265 Question Type : MCQ Option Shuffling : Yes
Correct Marks : 1 Wrong Marks : 0.25

इनमें से किस असमिया स्वतंत्रता सेनानी की भारत छोड़ो आंदोलन के दौरान असम में भारतीय ध्वज फहराने के दौरान मृत्यु हुई थी?

Options :

1. ✓ कनकलता बरुआ

2. * मातंगिनी हाजरा
3. * भोगेश्वरी फुकनानी
4. * भीखाजी कामा

Question Number : 68 Question Id : 54592740266 Question Type : MCQ Option Shuffling : Yes
Correct Marks : 1 Wrong Marks : 0.25

Who among these is the first to be awarded the Bharat Ratna Posthumously?

Options :

1. * Bidhan Chandra Roy
2. * Dhondo Keshav Karve
3. ✓ Lal Bahadur Shastri
4. * Jawaharlal Nehru

Question Number : 68 Question Id : 54592740266 Question Type : MCQ Option Shuffling : Yes
Correct Marks : 1 Wrong Marks : 0.25

इनमें से कौन पहले मरणोपरांत भारत रत्न से सम्मानित किए गए हैं?

Options :

1. * बिधान चंद्र रॉय
2. * धोंडो केशव कर्वे
3. ✓ लाल बहादुर शास्त्री
4. * जवाहरलाल नेहरू

Question Number : 69 Question Id : 54592740267 Question Type : MCQ Option Shuffling : Yes
Correct Marks : 1 Wrong Marks : 0.25

The gallantry award 'Victoria Cross' was replaced by which of these post Independence?

Options :

1. * Maha Vir Chakra
2. ✓ Param Vir Chakra

3. * Vir Chakra

4. * Sena Medal

Question Number : 69 Question Id : 54592740267 Question Type : MCQ Option Shuffling : Yes

Correct Marks : 1 Wrong Marks : 0.25

स्वतंत्रता के बाद वीरता पुरस्कार 'विक्टोरिया क्रॉस' को किसके द्वारा प्रतिस्थापित किया गया था?

Options :

1. * महा वीर चक्र

2. ✓ परमवीर चक्र

3. * वीर चक्र

4. * सेना मेडल

Question Number : 70 Question Id : 54592740268 Question Type : MCQ Option Shuffling : Yes

Correct Marks : 1 Wrong Marks : 0.25

Kannagi Devi Award is given away by the President every year for _____.

Options :

1. * Best Institution for Research & Development in the field of women empowerment

2. * Best Private Sector organization/ Public sector undertaking in promoting the well-being and welfare of women

3. * Best Urban Local body for providing services and facilities to women

4. ✓ Best State which has appreciably improved Child Sex Ratio (CSR)

Question Number : 70 Question Id : 54592740268 Question Type : MCQ Option Shuffling : Yes

Correct Marks : 1 Wrong Marks : 0.25

हर साल राष्ट्रपति द्वारा _____ के लिए कन्नगी देवी पुरस्कार दिया जाता है।

Options :

1. * महिला सशक्तीकरण के क्षेत्र में अनुसंधान और विकास के लिए सर्वश्रेष्ठ संस्थान
2. * महिलाओं की भलाई और कल्याण को बढ़ावा देने के लिए सर्वश्रेष्ठ निजी क्षेत्र संगठन/सार्वजनिक क्षेत्र का उपक्रम
3. * महिलाओं को सेवाएं और सुविधाएं प्रदान करने के लिए सर्वश्रेष्ठ शहरी स्थानीय निकाय
4. ✓ बाल लिंग अनुपात (CSR) (सीएसआर) को सुधारने के लिए सर्वश्रेष्ठ राज्य

Question Number : 71 Question Id : 54592740269 Question Type : MCQ Option Shuffling : Yes

Correct Marks : 1 Wrong Marks : 0.25

Which of these is awarded to scholars from Asian countries to spend 3 to 12 months in India to pursue a literary project?

Options :

1. ✓ Ananda Coomarswamy Fellowship
2. * Premchand Fellowship
3. * Bhasha Samman
4. * Sahitya Akademi Fellowship

Question Number : 71 Question Id : 54592740269 Question Type : MCQ Option Shuffling : Yes

Correct Marks : 1 Wrong Marks : 0.25

साहित्यिक परियोजना को आगे बढ़ाने के लिए इनमें से कौन से एशियाई देशों के विद्वान को भारत में 3 से 12 महीने बिताने के लिए पुरस्कार दिया गया है?

Options :

1. ✓ आनंद कोमारस्वामी फैलोशिप

2. * प्रेमचंद फैलोशिप
3. * भाषा सम्मान
4. * साहित्य अकादमी फैलोशिप

Question Number : 72 Question Id : 54592740270 Question Type : MCQ Option Shuffling : Yes
Correct Marks : 1 Wrong Marks : 0.25

Who among these has won a Nobel Prize for his work on the scattering of light and for the discovery of the effect named after him?

Options :

1. * Rabindranath Tagore
2. * V.S. Naipul
3. ✓ C.V Raman
4. * Har Gobind Khorana

Question Number : 72 Question Id : 54592740270 Question Type : MCQ Option Shuffling : Yes
Correct Marks : 1 Wrong Marks : 0.25

इनमें से किसने प्रकाश के प्रकीर्णन पर अपने काम के लिए नोबेल पुरस्कार जीता है और उनके नाम से प्रभाव की खोज को नामांकित किया गया है ?

Options :

1. * रविंद्रनाथ टैगोर
2. * वी.एस. नायपॉल
3. ✓ सी. वी. रमन
4. * हरगोविन्द खुराना

Question Number : 73 Question Id : 54592740271 Question Type : MCQ Option Shuffling : Yes
Correct Marks : 1 Wrong Marks : 0.25

Variable Energy Cyclotron Project, Kolkata is set up by which of these eminent scientists?

Options :

1. ✖ Homi Jehangir Bhabha

2. ✔ Vikram Sarabhai

3. ✖ C.V. Raman

4. ✖ A.P.J. Abdul Kalam

Question Number : 73 Question Id : 54592740271 Question Type : MCQ Option Shuffling : Yes
Correct Marks : 1 Wrong Marks : 0.25

किस प्रख्यात वैज्ञानिक द्वारा, चर ऊर्जा साइकलोट्रॉन परियोजना, कोलकाता की स्थापना की गई है?

Options :

1. ✖ होमी जहांगीर भाभा

2. ✔ विक्रम साराभाई

3. ✖ सी.वी.रमन

4. ✖ ए.पी.जे.अब्दुल कलाम

Question Number : 74 Question Id : 54592740272 Question Type : MCQ Option Shuffling : Yes
Correct Marks : 1 Wrong Marks : 0.25

How many members of the constituent assembly signed the Constitution?

Options :

1. ✔ 284

2. ✖ 500

3. ✖ 40

4. ✖ 20

Question Number : 74 Question Id : 54592740272 Question Type : MCQ Option Shuffling : Yes
Correct Marks : 1 Wrong Marks : 0.25

संविधान सभा के कितने सदस्यों ने संविधान पर हस्ताक्षर किए हैं?

Options :

1. ✔ 284

2. * 500

3. * 40

4. * 20

Question Number : 75 Question Id : 54592740273 Question Type : MCQ Option Shuffling : Yes
Correct Marks : 1 Wrong Marks : 0.25

Though the Governor has the power to pardon, he cannot pardon which of these?

Options :

1. * Juveniles

2. * Petty Theft

3. ✓ Death Sentence

4. * Fraud

Question Number : 75 Question Id : 54592740273 Question Type : MCQ Option Shuffling : Yes
Correct Marks : 1 Wrong Marks : 0.25

हालांकि राज्यपाल के पास क्षमा करने की शक्ति है, लेकिन वह इनमें से किसे माफ नहीं कर सकते हैं?

Options :

1. * किशोरों

2. * क्षुद्र चोरी

3. ✓ मौत की सजा

4. * धोखा

Question Number : 76 Question Id : 54592740274 Question Type : MCQ Option Shuffling : Yes
Correct Marks : 1 Wrong Marks : 0.25

Which of these is not a pre requisite for appointment as a Judge of the Supreme Court?

Options :

1. * Citizen of India

2. ✓ Should be of the ages of 40-55

3. ✖ has been for at least five years a Judge of a High Court or of two or more such Courts in succession

4. ✖ has been for at least ten years an advocate of a High Court or of two or more such Courts in succession

Question Number : 76 Question Id : 54592740274 Question Type : MCQ Option Shuffling : Yes

Correct Marks : 1 Wrong Marks : 0.25

सर्वोच्च न्यायालय के न्यायाधीश के रूप में नियुक्ति के लिए इनमें से कौन-सी पूर्व आवश्यकता नहीं है?

Options :

1. ✖ भारत का नागरिक

2. ✓ 40-55 की उम्र के होने चाहिए

3. ✖ कम से कम पांच साल तक उच्च न्यायालय के न्यायाधीश या उत्तराधिकार में दो या अधिक ऐसे न्यायालयों के न्यायाधीश रहे हैं

4. ✖ कम से कम दस साल से उच्च न्यायालय के एक वकील या उत्तराधिकार में दो या अधिक ऐसे न्यायालयों के अधिवक्ता हैं

Question Number : 77 Question Id : 54592740275 Question Type : MCQ Option Shuffling : Yes

Correct Marks : 1 Wrong Marks : 0.25

Provision for free and compulsory education for children is listed in which article of the Constitution?

Options :

1. ✓ Article 45

2. ✖ Article 5

3. ✖ Article 20

4. ✖ Article 15

Question Number : 77 Question Id : 54592740275 Question Type : MCQ Option Shuffling : Yes

Correct Marks : 1 Wrong Marks : 0.25

संविधान के किस अनुच्छेद में बच्चों के लिए मुफ्त और अनिवार्य शिक्षा का प्रावधान सूचीबद्ध है?

Options :

1. ✓ अनुच्छेद 45
2. ✗ अनुच्छेद 5
3. ✗ अनुच्छेद 20
4. ✗ अनुच्छेद 15

Question Number : 78 Question Id : 54592740276 Question Type : MCQ Option Shuffling : Yes

Correct Marks : 1 Wrong Marks : 0.25

Who beat Viswanathan Anand to become the World Chess Champion in 2013?

Options :

1. ✗ Anatoly Karpov
2. ✗ Garry Kasparov
3. ✓ Magnus Carlsen
4. ✗ Bobby Fischer

Question Number : 78 Question Id : 54592740276 Question Type : MCQ Option Shuffling : Yes

Correct Marks : 1 Wrong Marks : 0.25

2013 में विश्व शतरंज चैंपियन बनने के लिए विश्वनाथन आनंद को किसने हराया?

Options :

1. ✗ ऐनैटोली कार्पोव
2. ✗ गैरी कास्परोव
3. ✓ मैग्नस कार्लसन
4. ✗ बॉबी फिशर

Question Number : 79 Question Id : 54592740277 Question Type : MCQ Option Shuffling : Yes

Correct Marks : 1 Wrong Marks : 0.25

Which country hosted the Winter Olympics in 2018?

Options :

1. ✓ South Korea
2. ✗ China
3. ✗ Japan
4. ✗ Russia

Question Number : 79 Question Id : 54592740277 Question Type : MCQ Option Shuffling : Yes
Correct Marks : 1 Wrong Marks : 0.25

2018 में किस देश ने विंटर ओलंपिक की मेजबानी की?

Options :

1. ✓ दक्षिण कोरिया
2. ✗ चीन
3. ✗ जापान
4. ✗ रूस

Question Number : 80 Question Id : 54592740278 Question Type : MCQ Option Shuffling : Yes
Correct Marks : 1 Wrong Marks : 0.25

Who among these is a 21-time World Champion Billiard player?

Options :

1. ✗ Geet Sethi
2. ✓ Pankaj Advani
3. ✗ Ashok Sandilya
4. ✗ Micheal Ferreira

Question Number : 80 Question Id : 54592740278 Question Type : MCQ Option Shuffling : Yes
Correct Marks : 1 Wrong Marks : 0.25

इनमें से 21 बार का विश्व चैंपियन बिलियर्ड खिलाड़ी कौन है?

Options :

1. ✗ गीत सेठी

2. ✓ पंकज आडवाणी

3. ✖ अशोक सांडिल्य

4. ✖ माइकल फरेरा

Arithmetic Ability1

Group Number :	5
Group Id :	5459271995
Group Maximum Duration :	0
Group Minimum Duration :	0
Show Attended Group? :	No
Edit Attended Group? :	No
Break time:	0
Group Marks:	20
Is this Group for Examiner?:	No
Revisit allowed for group Instructions? :	Yes
Maximum Instruction Time:	0
Minimum Instruction Time:	0

Arithmetic Ability1

Section Id :	5459271995
Section Number :	1
Section type :	Online
Mandatory or Optional:	Mandatory
Number of Questions:	20
Number of Questions to be attempted:	20
Section Marks:	20

Sub-Section Number:	1
Sub-Section Id:	5459272393
Question Shuffling Allowed :	Yes

Question Number : 81 Question Id : 54592740279 Question Type : MCQ Option Shuffling : Yes
Correct Marks : 1 Wrong Marks : 0.25

On dividing a number by 799, the quotient is 296 and the remainder is 167. Find the number ?

Options :

1. ✖ 236781

2. ✖ 236561

3. ✓ 236671

4. ✗ 246891

Question Number : 81 Question Id : 54592740279 Question Type : MCQ Option Shuffling : Yes

Correct Marks : 1 Wrong Marks : 0.25

एक संख्या को 799 से विभाजित करने पर, भागफल 296 है और शेष 167 है। संख्या ज्ञात करें?

Options :

1. ✗ 236781

2. ✗ 236561

3. ✓ 236671

4. ✗ 246891

Question Number : 82 Question Id : 54592740280 Question Type : MCQ Option Shuffling : Yes

Correct Marks : 1 Wrong Marks : 0.25

Which of the following numbers is divisible by 11?

Options :

1. ✗ 27978820

2. ✗ 93604286

3. ✓ 62119904

4. ✗ 99971239

Question Number : 82 Question Id : 54592740280 Question Type : MCQ Option Shuffling : Yes

Correct Marks : 1 Wrong Marks : 0.25

निम्नलिखित में से कौन सी संख्या 11 से विभाज्य है?

Options :

1. ✗ 27978820

2. ✗ 93604286

3. ✓ 62119904

4. ✗ 99971239

Question Number : 83 Question Id : 54592740281 Question Type : MCQ Option Shuffling : Yes

Correct Marks : 1 Wrong Marks : 0.25

Ajay gets on an elevator on the 5th floor and rides up at the rate of 18 floors per minute. Sandhya gets on another elevator of the same building on the 22nd floor and rides down at the rate of 16 floor per minute. If they continue to travel on this rate, on which floor will their paths cross?

Options :

1. ✖ 15th floor
2. ✖ 19th floor
3. ✖ 11th floor
4. ✔ 14th floor

Question Number : 83 Question Id : 54592740281 Question Type : MCQ Option Shuffling : Yes

Correct Marks : 1 Wrong Marks : 0.25

अजय 5 वीं मंजिल पर एक लिफ्ट में चढ़ता है और प्रति मिनट 18 मंजिलों की दर से यात्रा करता है। संध्या 22 वीं मंजिल पर उसी इमारत के एक और लिफ्ट पर चढ़ती है और 16 मंजिल प्रति मिनट की दर से नीचे आती है। यदि वे इस दर पर यात्रा करना जारी रखते हैं, तो उनकी लिफ्ट किस मंजिल से पार होगी?

Options :

1. ✖ 15 वीं मंजिल
2. ✖ 19 वीं मंजिल
3. ✖ 11 वीं मंजिल
4. ✔ 14 वीं मंजिल

Question Number : 84 Question Id : 54592740282 Question Type : MCQ Option Shuffling : Yes

Correct Marks : 1 Wrong Marks : 0.25

One-fourth of Raj's savings is equal to one-sixth of his expenditure. If earns Rs 4800 per month, what are his savings?

Options :

1. ✖ 1560
2. ✔ 1920
3. ✖ 2060
4. ✖ 2340

Question Number : 84 Question Id : 54592740282 Question Type : MCQ Option Shuffling : Yes
Correct Marks : 1 Wrong Marks : 0.25

राज की बचत का एक-चौथाई उसके खर्च के एक-छठे हिस्से के बराबर है । यदि वह प्रति माह 4800 रुपए कमाता है, तो उसकी बचत कितनी है?

Options :

1. ✖ 1560
2. ✔ 1920
3. ✖ 2060
4. ✖ 2340

Question Number : 85 Question Id : 54592740283 Question Type : MCQ Option Shuffling : Yes
Correct Marks : 1 Wrong Marks : 0.25

The denominator of a fraction is 1 less than thrice the numerator. If the numerator and denominator are increased by 2 each, then the fraction becomes $\frac{4}{7}$. Find the original fraction?

Options :

1. ✔ $\frac{2}{5}$
2. ✖ $\frac{3}{4}$
3. ✖ $\frac{2}{7}$
4. ✖ $\frac{4}{9}$

Question Number : 85 Question Id : 54592740283 Question Type : MCQ Option Shuffling : Yes
Correct Marks : 1 Wrong Marks : 0.25

एक भिन्न का भाजक उसके अंश से तीन गुना से 1 कम है। यदि अंश और भाजक में प्रत्येक को 2 से बढ़ा दिया जाए, तो भिन्न $\frac{4}{7}$ हो जाता है। मूल भिन्न ज्ञात करें?

Options :

1. ✓ $\frac{2}{5}$
2. ✗ $\frac{3}{4}$
3. ✗ $\frac{2}{7}$
4. ✗ $\frac{4}{9}$

Question Number : 86 Question Id : 54592740284 Question Type : MCQ Option Shuffling : Yes
Correct Marks : 1 Wrong Marks : 0.25

Four bells commence ringing together and rings at intervals of 3, 9, 12 and 18 seconds respectively. In 45 minutes, how many times did they ring together from the start?

Options :

1. ✗ 84
2. ✗ 95
3. ✗ 67
4. ✓ 76

Question Number : 86 Question Id : 54592740284 Question Type : MCQ Option Shuffling : Yes
Correct Marks : 1 Wrong Marks : 0.25

चार घंटियाँ एक साथ बजना शुरू होती हैं और क्रमशः 3, 9, 12 और 18 सेकंड के अंतराल पर बजती हैं। 45 मिनट में, वे शुरू से कितनी बार एक साथ बजी हैं?

Options :

1. ✗ 84
2. ✗ 95

3. ✖ 67

4. ✔ 76

Question Number : 87 Question Id : 54592740285 Question Type : MCQ Option Shuffling : Yes

Correct Marks : 1 Wrong Marks : 0.25

Find the value of: $1 \div 3 \times 1 \div 3 \times 1 \div 4 \times 1 \div 8 \times 2160 = ?$

Options :

1. ✖ 6.5

2. ✖ 8.3

3. ✔ 7.5

4. ✖ 9.4

Question Number : 87 Question Id : 54592740285 Question Type : MCQ Option Shuffling : Yes

Correct Marks : 1 Wrong Marks : 0.25

$1 \div 3 \times 1 \div 3 \times 1 \div 4 \times 1 \div 8 \times 2160 = ?$ का मान ज्ञात करें।

Options :

1. ✖ 6.5

2. ✖ 8.3

3. ✔ 7.5

4. ✖ 9.4

Question Number : 88 Question Id : 54592740286 Question Type : MCQ Option Shuffling : Yes

Correct Marks : 1 Wrong Marks : 0.25

Find the value of: $(0.0212 - 0.0108) \times 1.625 = ?$

Options :

1. ✖ 0.169

2. ✔ 0.0169

3. ✖ 0.0216

4. ✖ 0.216

Question Number : 88 Question Id : 54592740286 Question Type : MCQ Option Shuffling : Yes
Correct Marks : 1 Wrong Marks : 0.25

$(0.0212 - 0.0108) \times 1.625 = ?$ का मान ज्ञात करें।

Options :

1. ✖ 0.169
2. ✔ 0.0169
3. ✖ 0.0216
4. ✖ 0.216

Question Number : 89 Question Id : 54592740287 Question Type : MCQ Option Shuffling : Yes
Correct Marks : 1 Wrong Marks : 0.25

Solve for X: $(36 \times 4 \div 16 \times 2) + (24 \times 3 \div 12 \times 5) - (19 \times 6 \div X) = 0$

Note: For this question, discrepancy is found in question/answer. So, this question is ignored for all candidates.

Options :

1. 14
2. 20
3. 16
4. 18

Question Number : 89 Question Id : 54592740287 Question Type : MCQ Option Shuffling : Yes
Correct Marks : 1 Wrong Marks : 0.25

X के लिए हल करें: $(36 \times 4 \div 16 \times 2) + (24 \times 3 \div 12 \times 5) - (19 \times 6 \div X) = 0$

Note: For this question, discrepancy is found in question/answer. So, this question is ignored for all candidates.

Options :

1. 14
2. 20
3. 16
4. 18

Question Number : 90 Question Id : 54592740288 Question Type : MCQ Option Shuffling : Yes
Correct Marks : 1 Wrong Marks : 0.25

Find the greatest number which, while dividing 67, 87, 99 and 163, gives a remainder of 3 in each case ?

Options :

1. ✖ 9
2. ✖ 6
3. ✖ 12
4. ✔ 4

Question Number : 90 Question Id : 54592740288 Question Type : MCQ Option Shuffling : Yes
Correct Marks : 1 Wrong Marks : 0.25

सबसे बड़ी वह संख्या ज्ञात करें, जो 67, 87, 99 और 163 को विभाजित करता है, प्रत्येक बार शेष 3 बचता है?

Options :

1. ✖ 9
2. ✖ 6
3. ✖ 12
4. ✔ 4

Question Number : 91 Question Id : 54592740289 Question Type : MCQ Option Shuffling : Yes
Correct Marks : 1 Wrong Marks : 0.25

The average of first 15 prime numbers which are odd is ?

Options :

1. ✖ 22.4
2. ✖ 16.24
3. ✖ 26.66
4. ✔ 25.27

Question Number : 91 Question Id : 54592740289 Question Type : MCQ Option Shuffling : Yes
Correct Marks : 1 Wrong Marks : 0.25

पहली 15 अभाज्य संख्याओं का औसत बताएं जो विषम है?

Options :

1. ✖ 22.4
2. ✖ 16.24
3. ✖ 26.66
4. ✔ 25.27

Question Number : 92 Question Id : 54592740290 Question Type : MCQ Option Shuffling : Yes
Correct Marks : 1 Wrong Marks : 0.25

After two successive discounts of 20% and 12%, an article is sold at Rs 4972, quote the marked price ?

Options :

1. ✔ 7062.5
2. ✖ 6940.6
3. ✖ 7644.5
4. ✖ 8100.6

Question Number : 92 Question Id : 54592740290 Question Type : MCQ Option Shuffling : Yes
Correct Marks : 1 Wrong Marks : 0.25

20% और 12% की दो लगातार छूट के बाद, एक वस्तु को 4972 रुपए में बेचा जाता है, उद्भूत मूल्य कतिना है?

Options :

1. ✔ 7062.5
2. ✖ 6940.6
3. ✖ 7644.5
4. ✖ 8100.6

Question Number : 93 Question Id : 54592740291 Question Type : MCQ Option Shuffling : Yes
Correct Marks : 1 Wrong Marks : 0.25

A shopkeeper has a sale of Rs 6532, Rs 6954, Rs 7369, Rs 7680 and Rs 7941 in the past 5 months. What amount of sale (in Rs) must he make in the next month to keep the average sale of the past 6 months at Rs 7500?

Options :

1. ✖ 9326

2. ✔ 8524

3. ✖ 8861

4. ✖ 9067

Question Number : 93 Question Id : 54592740291 Question Type : MCQ Option Shuffling : Yes

Correct Marks : 1 Wrong Marks : 0.25

पिछले 5 महीनों में एक दुकानदार की बिक्री 6532 रुपए, 6954 रुपए, 7369 रुपए, 7680 रुपए और 7941 रुपए है। पिछले 6 महीनों की औसत बिक्री को 7500 रुपए पर बनाए रखने के लिए उसकी अगले महीने में बिक्री राशि (रुपए में) कितनी होनी चाहिए?

Options :

1. ✖ 9326

2. ✔ 8524

3. ✖ 8861

4. ✖ 9067

Question Number : 94 Question Id : 54592740292 Question Type : MCQ Option Shuffling : Yes

Correct Marks : 1 Wrong Marks : 0.25

In a company there are 45% IT experts and 55% HR experts. If the 60% of IT experts and 40% of HR experts are permanent employees, then what is the percentage of temporary employees?

Options :

1. ✖ 48%

2. ✓ 51%

3. ✗ 43%

4. ✗ 58%

Question Number : 94 Question Id : 54592740292 Question Type : MCQ Option Shuffling : Yes
Correct Marks : 1 Wrong Marks : 0.25

एक कंपनी में 45% IT विशेषज्ञ और 55% HR विशेषज्ञ हैं। यदि 60% IT विशेषज्ञ और 40% IT विशेषज्ञ स्थायी कर्मचारी हैं, तो अस्थायी कर्मचारियों का प्रतिशत क्या है?

Options :

1. ✗ 48%

2. ✓ 51%

3. ✗ 43%

4. ✗ 58%

Question Number : 95 Question Id : 54592740293 Question Type : MCQ Option Shuffling : Yes
Correct Marks : 1 Wrong Marks : 0.25

Vijay got 20% concession on the marked price of an article and sold it at Rs 9600 with 20% profit on the price he bought. What was the marked price ?

Options :

1. ✓ 10000

2. ✗ 11400

3. ✗ 9600

4. ✗ 8400

Question Number : 95 Question Id : 54592740293 Question Type : MCQ Option Shuffling : Yes
Correct Marks : 1 Wrong Marks : 0.25

विजय को एक वस्तु के चिह्नित मूल्य पर 20% की रियायत मिली और उसने खरीदी गई कीमत पर 20% लाभ के साथ 9600 रुपए में बेच दिया। चिह्नित मूल्य क्या था?

Options :

1. ✓ 10000
2. ✗ 11400
3. ✗ 9600
4. ✗ 8400

Question Number : 96 Question Id : 54592740294 Question Type : MCQ Option Shuffling : Yes
Correct Marks : 1 Wrong Marks : 0.25

One type of liquid contains 10% of vinegar, the other contains 40% of vinegar. A container is filled with 8 parts of the first liquid and 2 parts of the second liquid. The percentage of vinegar in the mixture is _____.

Options :

1. ✗ 20%
2. ✗ 15%
3. ✓ 16%
4. ✗ 25%

Question Number : 96 Question Id : 54592740294 Question Type : MCQ Option Shuffling : Yes
Correct Marks : 1 Wrong Marks : 0.25

एक प्रकार के द्रव में 10% सिरका है, दूसरे में 40% सिरका है। एक कंटेनर पहले द्रव के 8 भागों और दूसरे द्रव के 2 भागों से भरा है। मिश्रण में सिरका का प्रतिशत कितना है?

Options :

1. ✗ 20%
2. ✗ 15%

3. ✓ 16%

4. ✗ 25%

Question Number : 97 Question Id : 54592740295 Question Type : MCQ Option Shuffling : Yes

Correct Marks : 1 Wrong Marks : 0.25

If the selling price is increased 2.5 times then the profit is quadrupled. Find the profit percent ?

Options :

1. ✗ 125%

2. ✓ 100%

3. ✗ 75%

4. ✗ 160%

Question Number : 97 Question Id : 54592740295 Question Type : MCQ Option Shuffling : Yes

Correct Marks : 1 Wrong Marks : 0.25

यदि विक्रय मूल्य 2.5 गुना बढ़ा दिया जाता है तो लाभ चौगुना हो जाता है। लाभ प्रतिशत ज्ञात करें?

Options :

1. ✗ 125%

2. ✓ 100%

3. ✗ 75%

4. ✗ 160%

Question Number : 98 Question Id : 54592740296 Question Type : MCQ Option Shuffling : Yes

Correct Marks : 1 Wrong Marks : 0.25

If an article is sold at 23% profit instead of 18% profit, the shopkeeper will earn Rs 210 more. What is cost price of the article ?

Options :

1. ✗ Rs 3600

2. ✖ Rs 5700

3. ✔ Rs 4200

4. ✖ Rs 6300

Question Number : 98 Question Id : 54592740296 Question Type : MCQ Option Shuffling : Yes
Correct Marks : 1 Wrong Marks : 0.25

यदि एक वस्तु को 18% लाभ के बजाय 23% लाभ पर बेचा जाता है, तो दुकानदार 210 रुपए अधिक कमाएगा। वस्तु की लागत मूल्य क्या है?

Options :

1. ✖ 3600 रुपए

2. ✖ 5700 रुपए

3. ✔ 4200 रुपए

4. ✖ 6300 रुपए

Question Number : 99 Question Id : 54592740297 Question Type : MCQ Option Shuffling : Yes
Correct Marks : 1 Wrong Marks : 0.25

A fruit vendor purchase 20 dozen apples at Rs 20 per dozen. 1/4th of the apples were rotten so had to be thrown away. 3/5th was sold at Rs 30.50 per dozen. At what price per dozen should he sell the rest to make a 20% profit.?

Options :

1. ✔ Rs 34.25

2. ✖ Rs 31.65

3. ✖ Rs 29.15

4. ✖ Rs 38.95

Question Number : 99 Question Id : 54592740297 Question Type : MCQ Option Shuffling : Yes
Correct Marks : 1 Wrong Marks : 0.25

एक फल विक्रेता 20 दर्जन सेब को 20 रुपए प्रति दर्जन पर खरीदता है।

$\frac{1}{4}$ सेब सड़ गए थे इसलिए उसे फेंक दिया गया। $\frac{3}{5}$ वां 30.50 रुपए प्रति नीचे बिका। 20% लाभ कमाने के लिए उसे शेष को प्रति दर्जन किस कीमत पर बेचना चाहिए?

Options :

1. ✓ 34.25 रुपए
2. ✗ 31.65 रुपए
3. ✗ 29.15 रुपए
4. ✗ 38.95 रुपए

Question Number : 100 Question Id : 54592740298 Question Type : MCQ Option Shuffling : Yes

Correct Marks : 1 Wrong Marks : 0.25

The proportion of copper and zinc in brass is in the ratio of 3:5. How much Zinc will be there in a mixture of 96 Kg of brass?

Options :

1. ✗ 54 Kg
2. ✗ 48 Kg
3. ✗ 72 Kg
4. ✓ 60 Kg

Question Number : 100 Question Id : 54592740298 Question Type : MCQ Option Shuffling : Yes

Correct Marks : 1 Wrong Marks : 0.25

पीतल में तांबा और जस्ता का अनुपात 3:5 के अनुपात में है। 96 kg पीतल के मिश्रण में कितना जस्ता होगा?

Options :

1. ✗ 54 Kg
2. ✗ 48 Kg

3. ✖ 72 Kg

4. ✔ 60 Kg

Arithmetic Ability2

Group Number :	6
Group Id :	5459271996
Group Maximum Duration :	0
Group Minimum Duration :	0
Show Attended Group? :	No
Edit Attended Group? :	No
Break time:	0
Group Marks:	20
Is this Group for Examiner?:	No
Revisit allowed for group Instructions? :	Yes
Maximum Instruction Time:	0
Minimum Instruction Time:	0

Arithmetic Ability2

Section Id :	5459271996
Section Number :	1
Section type :	Online
Mandatory or Optional:	Mandatory
Number of Questions:	20
Number of Questions to be attempted:	20
Section Marks:	20

Sub-Section Number:	1
Sub-Section Id:	5459272394
Question Shuffling Allowed :	Yes

Question Number : 101 Question Id : 54592740299 Question Type : MCQ Option Shuffling : Yes

Correct Marks : 1 Wrong Marks : 0.25

A sum is divided between A, B and C. A gets a rupee. B gets 60 paisa and C gets 45 paisa. If B share was Rs 36, then what was the total amount ?

Options :

1. ✖ 106

2. ✔ 123

3. ✖ 114

4. ✖ 134

Question Number : 101 Question Id : 54592740299 Question Type : MCQ Option Shuffling : Yes

Correct Marks : 1 Wrong Marks : 0.25

एक राशि को A, B और C के बीच विभाजित किया जाता है। A को एक रुपए मिलता है। B को 60 पैसे मिलते हैं और C को 45 पैसे मिलते हैं। यदि B का हिस्सा 36 रुपए था, तो कुल राशि क्या थी?

Options :

1. ✖ 106

2. ✔ 123

3. ✖ 114

4. ✖ 134

Question Number : 102 Question Id : 54592740300 Question Type : MCQ Option Shuffling : Yes

Correct Marks : 1 Wrong Marks : 0.25

250 litres of a mixture contains milk and water in the ratio 7:3. How much water should be added to the mixture so that the ratio of milk and water become 4:3 ?

Options :

1. ✔ 56.25 litres

2. ✖ 40.75 litres

3. ✖ 30.5 litres

4. ✖ 25.0 litres

Question Number : 102 Question Id : 54592740300 Question Type : MCQ Option Shuffling : Yes

Correct Marks : 1 Wrong Marks : 0.25

मिश्रण के 250 लीटर में 7:3 के अनुपात में दूध और पानी है। मिश्रण में कितना पानी जोड़ा जाना चाहिए ताकि दूध और पानी का अनुपात 4:3 हो जाए?

Options :

1. ✓ 56.25 लीटर

2. ✗ 40.75 लीटर

3. ✗ 30.5 लीटर

4. ✗ 25.0 लीटर

Question Number : 103 Question Id : 54592740301 Question Type : MCQ Option Shuffling : Yes

Correct Marks : 1 Wrong Marks : 0.25

At what simple interest rate percent per annum will a sum of money be doubled in 16 years ?

Options :

1. ✗ 5.85%

2. ✗ 6.75%

3. ✓ 6.25%

4. ✗ 5%

Question Number : 103 Question Id : 54592740301 Question Type : MCQ Option Shuffling : Yes

Correct Marks : 1 Wrong Marks : 0.25

16 वर्ष में प्रति वर्ष किस साधारण ब्याज दर से धन दोगुना होगा?

Options :

1. ✗ 5.85%

2. ✗ 6.75%

3. ✓ 6.25%

4. ✗ 5%

Question Number : 104 Question Id : 54592740302 Question Type : MCQ Option Shuffling : Yes

Correct Marks : 1 Wrong Marks : 0.25

The simple interest accrued on an amount of Rs 45000 at the end of three years is Rs 17550. What would be the compound interest accrued on the same sum of money at the same rate for the same term (in approx Rs) ?

Options :

1. ✖ 16980.67
2. ✖ 18760.24
3. ✖ 20640.28
4. ✔ 19930.37

Question Number : 104 Question Id : 54592740302 Question Type : MCQ Option Shuffling : Yes
Correct Marks : 1 Wrong Marks : 0.25

तीन वर्षों के अंत में 45000 रुपए की राशि पर अर्जित साधारण ब्याज 17550 रुपए है। समान अवधि के लिए समान दर पर समान रूप से (रुपए में) समान राशि पर अर्जित चक्रवृद्धि ब्याज क्या होगा?

Options :

1. ✖ 16980.67
2. ✖ 18760.24
3. ✖ 20640.28
4. ✔ 19930.37

Question Number : 105 Question Id : 54592740303 Question Type : MCQ Option Shuffling : Yes
Correct Marks : 1 Wrong Marks : 0.25

A sum of money placed at compound interest will double itself in 3 years, then in how many years will be make itself 8 times the amount ?

Options :

1. ✔ 9 years
2. ✖ 7 years
3. ✖ 12 years
4. ✖ 20 years

Question Number : 105 Question Id : 54592740303 Question Type : MCQ Option Shuffling : Yes
Correct Marks : 1 Wrong Marks : 0.25

चक्रवृद्धि ब्याज पर एक धनराशि 3 वर्षों में दोगुनी हो जाती है, तो कितने वर्षों में राशि 8 गुना हो जाएगी?

Options :

1. ✓ 9 वर्ष
2. ✗ 7 वर्ष
3. ✗ 12 वर्ष
4. ✗ 20 वर्ष

Question Number : 106 Question Id : 54592740304 Question Type : MCQ Option Shuffling : Yes
Correct Marks : 1 Wrong Marks : 0.25

A train's average speed is 96 km/h but is reduced to 20 m/s due to stoppages. For how much time does the train stop in an hour?

Options :

1. ✗ 8 mins
2. ✗ 10 mins
3. ✗ 18 mins
4. ✓ 15 mins

Question Number : 106 Question Id : 54592740304 Question Type : MCQ Option Shuffling : Yes
Correct Marks : 1 Wrong Marks : 0.25

एक रेलगाड़ी की औसत गति 96 km/h है, लेकिन ठहराव के कारण इसे 20 m/s तक घटा दिया गया है। रेलगाड़ी एक घंटे में कितने समय के लिए रुकती है?

Options :

1. ✗ 8 मिनट
2. ✗ 10 मिनट
3. ✗ 18 मिनट

4. ✓ 15 मिनट

Question Number : 107 Question Id : 54592740305 Question Type : MCQ Option Shuffling : Yes
Correct Marks : 1 Wrong Marks : 0.25

A train is 160 m in length passes a person standing on the platform. The speed of the train was 54 kmph. How much time it took in doing so?

Options :

1. ✗ 8 (1/2) sec
2. ✗ 9 (3/4) sec
3. ✓ 10 (2/3) sec
4. ✗ 12 (5/6) sec

Question Number : 107 Question Id : 54592740305 Question Type : MCQ Option Shuffling : Yes
Correct Marks : 1 Wrong Marks : 0.25

160 m लंबी एक रेलगाड़ी प्लेटफॉर्म पर खड़े एक व्यक्ति को पार करती है। रेलगाड़ी की गति 54 kmph थी। ऐसा करने में कितना समय लगा?

Options :

1. ✗ 8 (1/2) सेकंड
2. ✗ 9 (3/4) सेकंड
3. ✓ 10 (2/3) सेकंड
4. ✗ 12 (5/6) सेकंड

Question Number : 108 Question Id : 54592740306 Question Type : MCQ Option Shuffling : Yes
Correct Marks : 1 Wrong Marks : 0.25

A train 480 m long is running at a speed of 24 kmph. The time taken by it to cross a bridge of 160 m long is?

Options :

1. ✗ 1 min
2. ✓ 1 min 36 sec

3. * 2 min 13 sec

4. * 1 mins 54 sec

Question Number : 108 Question Id : 54592740306 Question Type : MCQ Option Shuffling : Yes

Correct Marks : 1 Wrong Marks : 0.25

480 m लंबी रेलगाड़ी 24 kmph की रफ्तार से दौड़ रही है। 160 m लंबे पुल को पार करने में उसे कितना समय लगेगा?

Options :

1. * 1 मिनट

2. ✓ 1 मिनट 36 सेकेंड

3. * 2 मिनट 13 सेकंड

4. * 1 मिनट 54 सेकंड

Question Number : 109 Question Id : 54592740307 Question Type : MCQ Option Shuffling : Yes

Correct Marks : 1 Wrong Marks : 0.25

R can do a piece of work in 4 days. S can do it in 6 days. With T's assistance they were able to complete in 2 days. If T were to work alone how much time will he require to complete the whole work by himself ?

Options :

1. * 20 days

2. * 11 days

3. * 16 days

4. ✓ 12 days

Question Number : 109 Question Id : 54592740307 Question Type : MCQ Option Shuffling : Yes

Correct Marks : 1 Wrong Marks : 0.25

R 4 दिनों में एक काम कर सकता है। S इसे 6 दिनों में कर सकता है। T की सहायता से वे 2 दिनों में पूरा करने में सक्षम थे। यदि T को अकेले काम करना हुआ तो वह उसे कितने समय में पूरा करेगा?

Options :

1. ✖ 20 दिन
2. ✖ 11 दिन
3. ✖ 16 दिन
4. ✔ 12 दिन

Question Number : 110 Question Id : 54592740308 Question Type : MCQ Option Shuffling : Yes
Correct Marks : 1 Wrong Marks : 0.25

R is thrice as good as S and together they can finish the work in 15 days. In how many days would R take to complete the work ?

Options :

1. ✖ 15 days
2. ✖ 24 days
3. ✔ 20 days
4. ✖ 18 days

Question Number : 110 Question Id : 54592740308 Question Type : MCQ Option Shuffling : Yes
Correct Marks : 1 Wrong Marks : 0.25

R, S से तिगुना कुशल है और साथ में वे 15 दिनों में काम पूरा कर सकते हैं। R को कार्य पूरा करने में कितने दिन लगेंगे?

Options :

1. ✖ 15 दिन
2. ✖ 24 दिन
3. ✔ 20 दिन
4. ✖ 18 दिन

Question Number : 111 Question Id : 54592740309 Question Type : MCQ Option Shuffling : Yes
Correct Marks : 1 Wrong Marks : 0.25

45 men working 8 hours a day can dig 30 m deep. How many extra men would be required to dig a depth of 60 m in 4 hours ?

Options :

1. ✖ 115 men
2. ✖ 125 men
3. ✖ 130 men
4. ✔ 135 men

Question Number : 111 Question Id : 54592740309 Question Type : MCQ Option Shuffling : Yes

Correct Marks : 1 Wrong Marks : 0.25

45 आदमी प्रतिदिन 8 घंटे काम कर 30 m गहरी खुदाई करते हैं। 4 घंटों में 60 m तक की गहराई खुदाई करने के लिए कितने अतिरिक्त पुरुषों की आवश्यकता होगी?

Options :

1. ✖ 115 आदमी
2. ✖ 125 आदमी
3. ✖ 130 आदमी
4. ✔ 135 आदमी

Question Number : 112 Question Id : 54592740310 Question Type : MCQ Option Shuffling : Yes

Correct Marks : 1 Wrong Marks : 0.25

Find the area of a parallelogram whose base is 26 cm and height is 14 cm?

Options :

1. ✔ 364 sq cm
2. ✖ 326 sq cm
3. ✖ 298 sq cm
4. ✖ 268 sq cm

Question Number : 112 Question Id : 54592740310 Question Type : MCQ Option Shuffling : Yes
Correct Marks : 1 Wrong Marks : 0.25

एक समांतर चतुर्भुज का क्षेत्रफल ज्ञात करें, जिसका आधार 26 cm और ऊंचाई 14 cm है?

Options :

1. ✓ 364 sq cm
2. ✗ 326 sq cm
3. ✗ 298 sq cm
4. ✗ 268 sq cm

Question Number : 113 Question Id : 54592740311 Question Type : MCQ Option Shuffling : Yes
Correct Marks : 1 Wrong Marks : 0.25

A cyclist cycles along the boundary of a rectangular park at the rate of 18 kmph and completes one full round in 10 minutes. If the ratio between the length and breadth of the park is 5:3, then its area is how much?

Options :

1. ✗ 487235.25 sq m
2. ✓ 527343.75 sq m
3. ✗ 506873.65 sq m
4. ✗ 556648.15 sq m

Question Number : 113 Question Id : 54592740311 Question Type : MCQ Option Shuffling : Yes
Correct Marks : 1 Wrong Marks : 0.25

एक साइकिल चालक एक आयताकार पार्क की सीमा पर 18 kmph की गति से साइकिल चलाता है और एक चक्कर 10 मिनट में पूरा करता है। यदि पार्क की लंबाई और चौड़ाई के बीच का अनुपात 5:3 है, तो उसका क्षेत्रफल कितना है?

Options :

1. ✗ 487235.25 sq m

2. ✓ 527343.75 sq m

3. ✗ 506873.65 sq m

4. ✗ 556648.15 sq m

Question Number : 114 Question Id : 54592740312 Question Type : MCQ Option Shuffling : Yes
Correct Marks : 1 Wrong Marks : 0.25

The radius of a wheel is 13.8 cm. What distance is covered by the wheel making 490 revolutions ?

Options :

1. ✗ 38740 cm

2. ✓ 42504 cm

3. ✗ 46598 cm

4. ✗ 50360 cm

Question Number : 114 Question Id : 54592740312 Question Type : MCQ Option Shuffling : Yes
Correct Marks : 1 Wrong Marks : 0.25

एक पहिया की त्रिज्या 13.8 cm है। यदि पहिया 490 चक्कर लगाता है, तो वह कितनी दूरी तय करता है?

Options :

1. ✗ 38740 cm

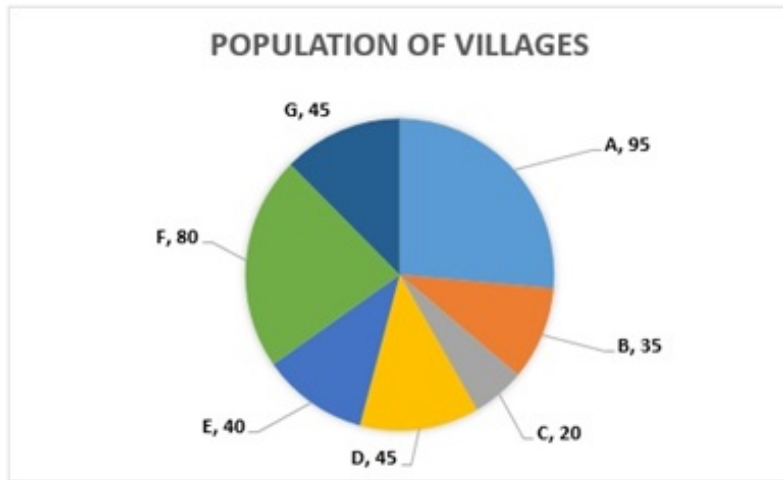
2. ✓ 42504 cm

3. ✗ 46598 cm

4. ✗ 50360 cm

Question Number : 115 Question Id : 54592740313 Question Type : MCQ Option Shuffling : Yes
Correct Marks : 1 Wrong Marks : 0.25

In the given pie-chart of population, approx what part of total percentage does villages A and F together form ?



Options :

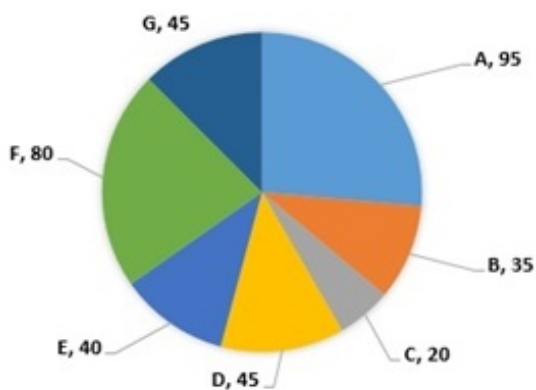
1. ✘ 52.41%
2. ✔ 48.61%
3. ✘ 42.29%
4. ✘ 61.27%

Question Number : 115 Question Id : 54592740313 Question Type : MCQ Option Shuffling : Yes

Correct Marks : 1 Wrong Marks : 0.25

जनसंख्या के दिए गए पाई-चार्ट में लगभग कुल प्रतिशत का कितना हिस्सा गाँव A और F मिलकर बनाते हैं?

गावों की आबादी



Options :

1. ✘ 52.41%

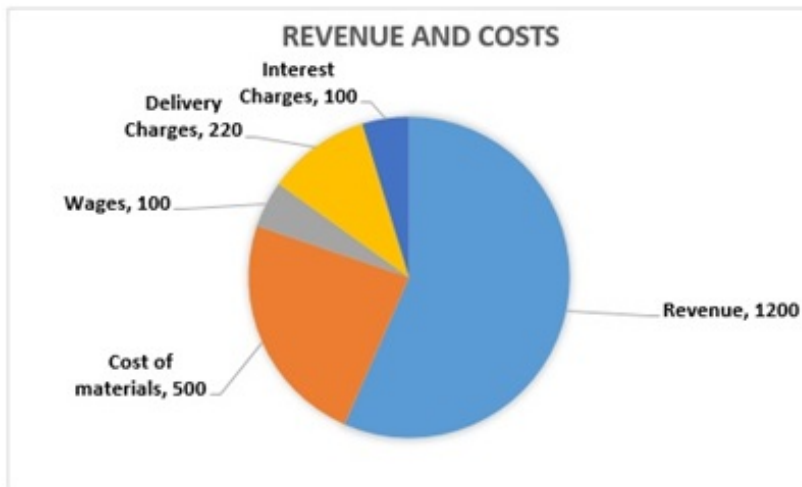
2. ✓ 48.61%

3. ✗ 42.29%

4. ✗ 61.27%

Question Number : 116 Question Id : 54592740314 Question Type : MCQ Option Shuffling : Yes
Correct Marks : 1 Wrong Marks : 0.25

From the given pie-chart what percentage does the cost of material form a part of the revenue earned by the company ?



Options :

1. ✓ 41.67%

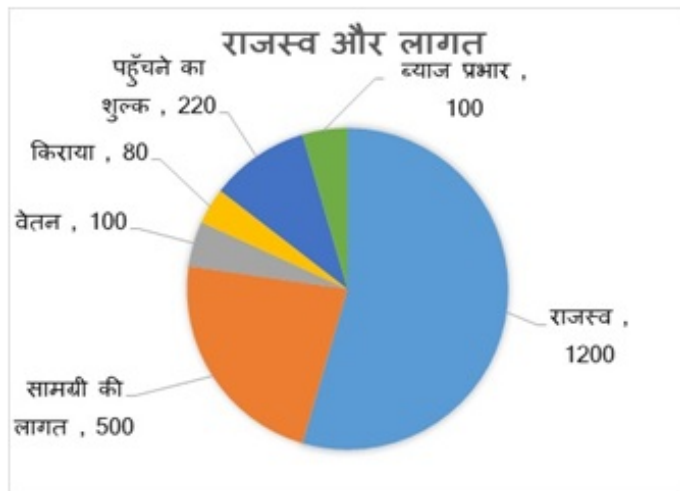
2. ✗ 42.23%

3. ✗ 39.67%

4. ✗ 37.23%

Question Number : 116 Question Id : 54592740314 Question Type : MCQ Option Shuffling : Yes
Correct Marks : 1 Wrong Marks : 0.25

दिए गए पाई-चार्ट के मुताबिक सामग्री की लागत कंपनी द्वारा अर्जित राजस्व का एक हिस्सा कितना प्रतिशत है?



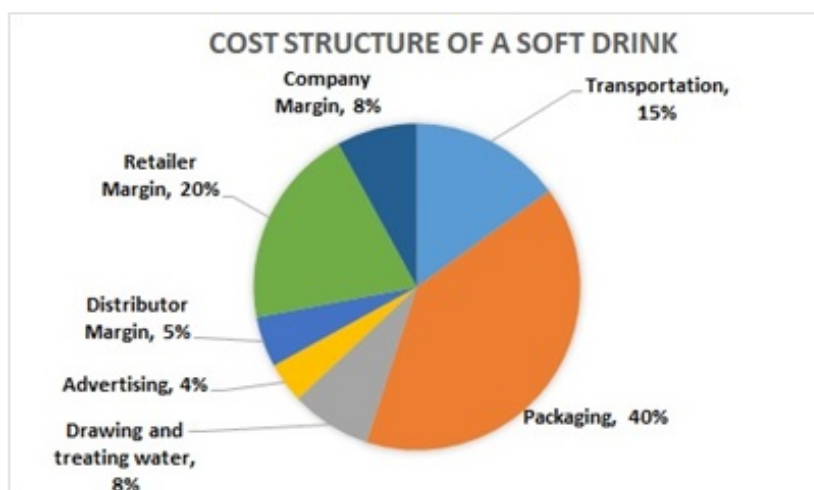
Options :

1. ✓ 41.67%
2. ✗ 42.23%
3. ✗ 39.67%
4. ✗ 37.23%

Question Number : 117 Question Id : 54592740315 Question Type : MCQ Option Shuffling : Yes

Correct Marks : 1 Wrong Marks : 0.25

From the given pie-chart, if the cold drink is sold at Rs 180, what is the earned by the company ?



Options :

1. ✖ 12.2

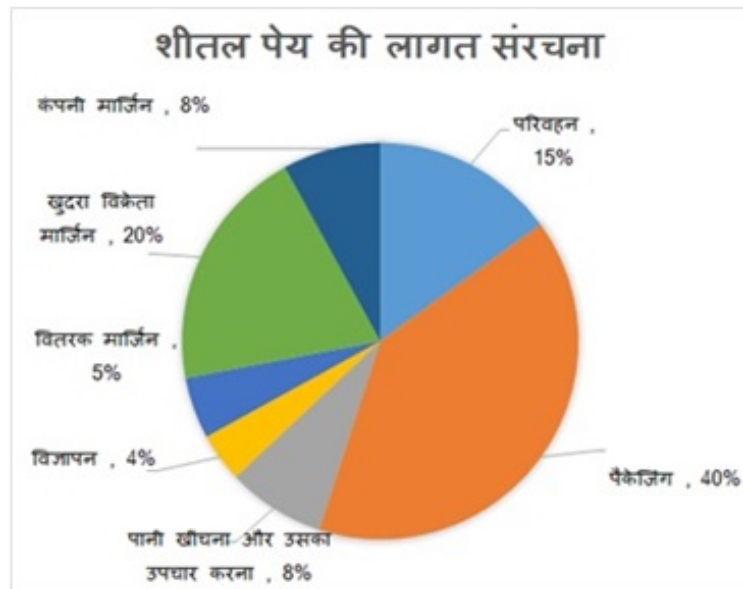
2. ✔ 14.4

3. ✖ 25.9

4. ✖ 18.6

Question Number : 117 Question Id : 54592740315 Question Type : MCQ Option Shuffling : Yes
Correct Marks : 1 Wrong Marks : 0.25

दिए गए पाई-चार्ट में यदि ठंडा पेय 180 रुपए में बेचा जाता है, तो कंपनी की अर्जित आय कितनी है?



Options :

1. ✖ 12.2

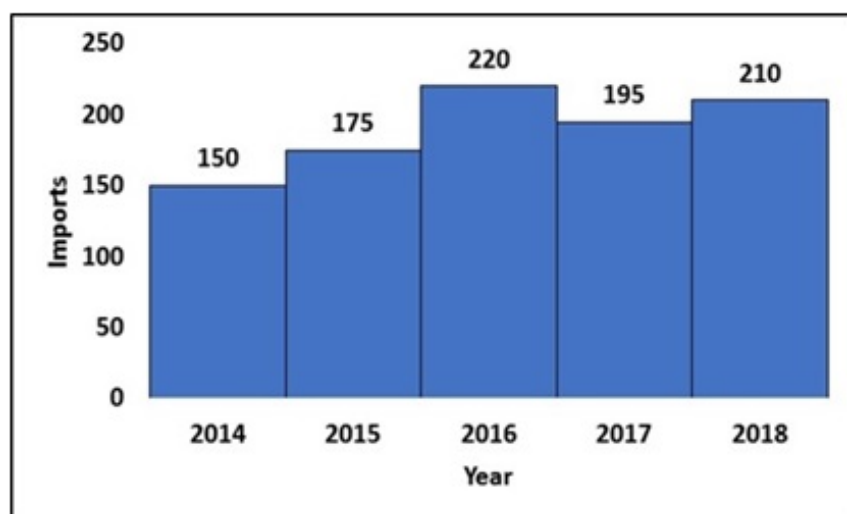
2. ✔ 14.4

3. ✖ 25.9

4. ✖ 18.6

Question Number : 118 Question Id : 54592740316 Question Type : MCQ Option Shuffling : Yes
Correct Marks : 1 Wrong Marks : 0.25

From the given bar chart, in which years was the import more than the average imports of the past 5 years ?



Options :

1. ✖ 2015, 2016, 2018

2. ✖ 2014, 2015, 2018

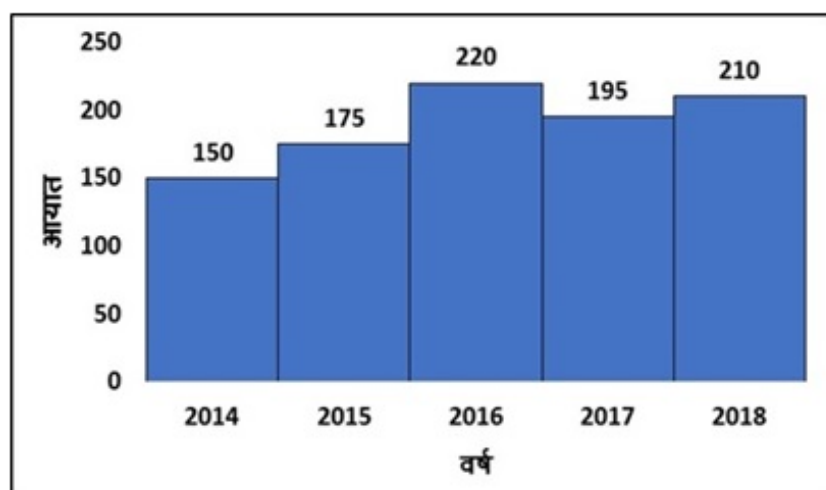
3. ✖ 2014, 2016, 2017

4. ✔ 2016, 2017, 2018

Question Number : 118 Question Id : 54592740316 Question Type : MCQ Option Shuffling : Yes

Correct Marks : 1 Wrong Marks : 0.25

दिए गए बार चार्ट में, किस वर्ष में आयात पिछले 5 वर्षों के औसत आयात से अधिक था?



Options :

1. ✖ 2015, 2016, 2018

2. ✖ 2014,2015, 2018

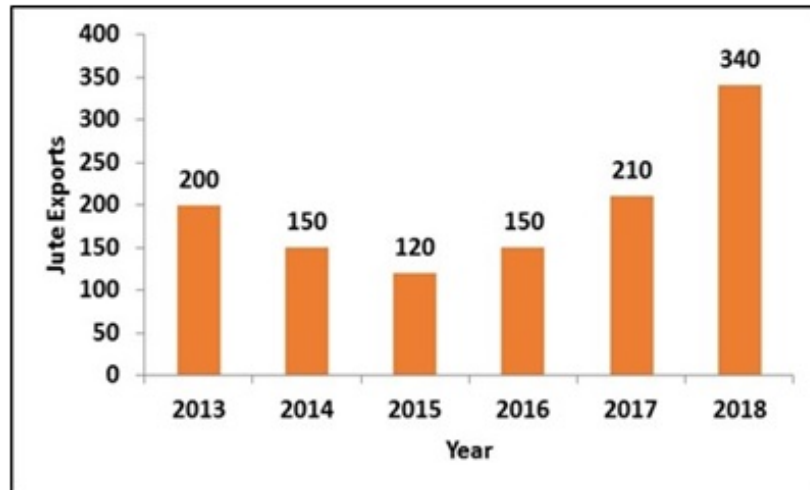
3. ✖ 2014,2016, 2017

4. ✔ 2016, 2017, 2018

Question Number : 119 Question Id : 54592740317 Question Type : MCQ Option Shuffling : Yes

Correct Marks : 1 Wrong Marks : 0.25

From the given chart, by how much did the jute production fall from 2013 to 2015 and how much did it rise from 2015 to 2018 ?



Options :

1. ✖ 50% fall and 200% rise

2. ✖ 45% fall and 196.48% rise

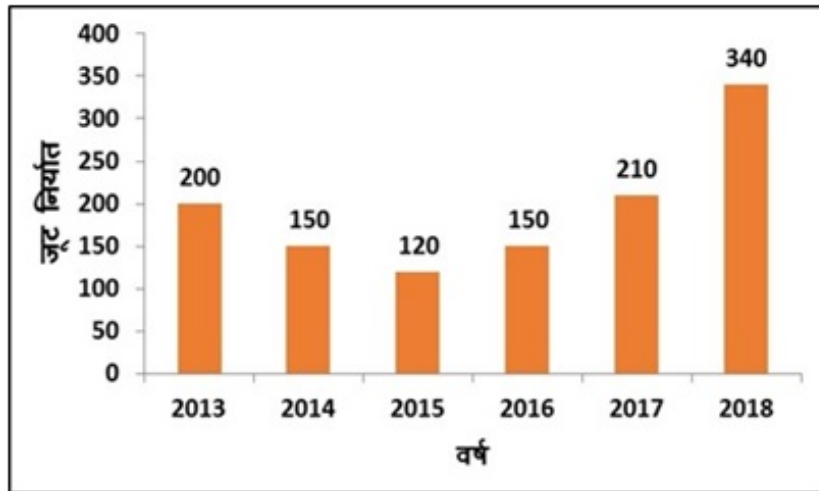
3. ✔ 40% fall and 188.33% rise

4. ✖ 60% fall and 176.67% rise

Question Number : 119 Question Id : 54592740317 Question Type : MCQ Option Shuffling : Yes

Correct Marks : 1 Wrong Marks : 0.25

दिए गए चार्ट में, 2013 से 2015 तक जूट उत्पादन में कितनी गिरावट आई और यह 2015 से 2018 तक कितना बढ़ गया?



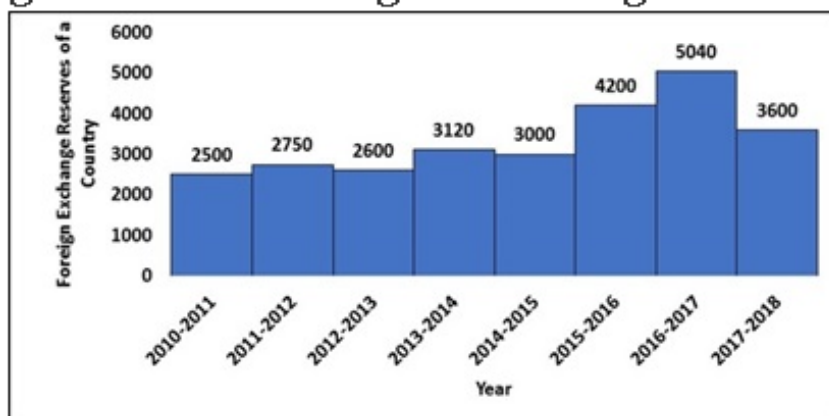
Options :

1. ✘ 50% की गिरावट और 200% की वृद्धि
2. ✘ 45% की गिरावट और 196.48% की वृद्धि
3. ✔ 40% की गिरावट और 188.33% की वृद्धि
4. ✘ 60% की गिरावट और 176.67% की वृद्धि

Question Number : 120 Question Id : 54592740318 Question Type : MCQ Option Shuffling : Yes

Correct Marks : 1 Wrong Marks : 0.25

From the given chart which year has observed the most growth in foreign exchange reserves and by what percent ?



Options :

1. ✔ 2015-16 and 40% increase
2. ✘ 2016-2017 and 40% increase

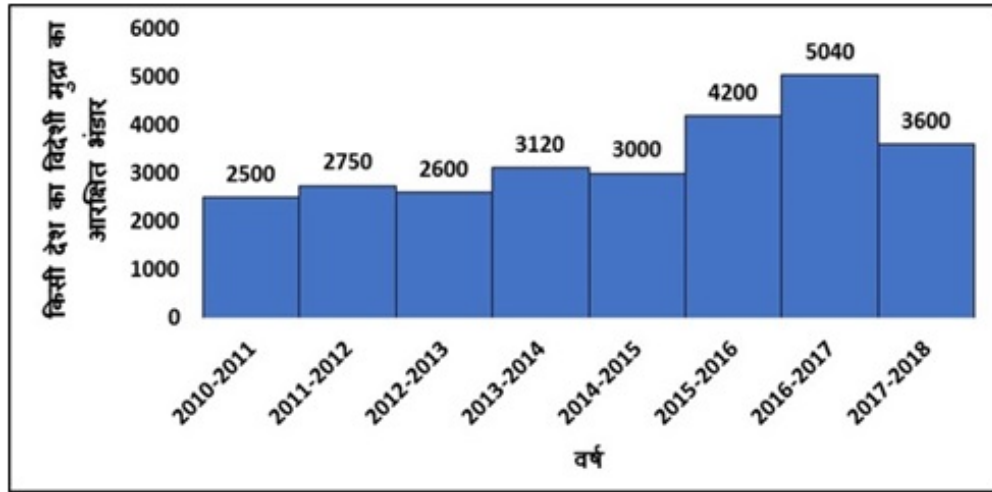
3. * 2015-2016 and 20 % increase

4. * 2013-2014 and 40% increase

Question Number : 120 Question Id : 54592740318 Question Type : MCQ Option Shuffling : Yes

Correct Marks : 1 Wrong Marks : 0.25

दिए गए चार्ट के अनुसार किस वर्ष में कितने प्रतिशत की दर से विदेशी मुद्रा भंडार में सबसे अधिक वृद्धि हुई?



Options :

1. ✓ 2015-16 और 40% वृद्धि

2. * 2016-2017 और 40% वृद्धि

3. * 2015-2016 और 20% वृद्धि

4. * 2013-2014 और 40% वृद्धि

General English1

Group Number :	7
Group Id :	5459271997
Group Maximum Duration :	0
Group Minimum Duration :	0
Show Attended Group? :	No
Edit Attended Group? :	No
Break time:	0
Group Marks:	20
Is this Group for Examiner?:	No
Revisit allowed for group Instructions? :	Yes
Maximum Instruction Time:	0
Minimum Instruction Time:	0

General English1

Section Id :	5459271997
Section Number :	1
Section type :	Online
Mandatory or Optional:	Mandatory
Number of Questions:	20
Number of Questions to be attempted:	20
Section Marks:	20

Sub-Section Number:	1
Sub-Section Id:	5459272395
Question Shuffling Allowed :	Yes

Question Number : 121 Question Id : 54592740319 Question Type : MCQ Option Shuffling : Yes
Correct Marks : 1 Wrong Marks : 0.25

In the following statement, one part of the sentence may have an error. Find out which part of the sentence has an error and click the button corresponding to it. If the sentence is free from error, select the "No error" option.

(A) The doctor made/ (B) a dangerously mistake which / (C) cost many lives./ (D) No error

Options :

1. ✘ A
2. ✔ B
3. ✘ C
4. ✘ D

Question Number : 121 Question Id : 54592740319 Question Type : MCQ Option Shuffling : Yes
Correct Marks : 1 Wrong Marks : 0.25

In the following statement, one part of the sentence may have an error. Find out which part of the sentence has an error and click the button corresponding to it. If the sentence is free from error, select the "No error" option.

(A) The doctor made/ (B) a dangerously mistake which /
(C) cost many lives./ (D) No error

Options :

1. ✘ A

2. ✔ B

3. ✘ C

4. ✘ D

Question Number : 122 Question Id : 54592740320 Question Type : MCQ Option Shuffling : Yes
Correct Marks : 1 Wrong Marks : 0.25

In the following statement, one part of the sentence may have an error. Find out which part of the sentence has an error and click the button corresponding to it. If the sentence is free from error, select the "No error" option.

(A) He is the most strongest/ (B) personality prescribed / (C) in history./ (D) No error

Options :

1. ✔ A

2. ✘ B

3. ✘ C

4. ✘ D

Question Number : 122 Question Id : 54592740320 Question Type : MCQ Option Shuffling : Yes
Correct Marks : 1 Wrong Marks : 0.25

In the following statement, one part of the sentence may have an error. Find out which part of the sentence has an error and click the button corresponding to it. If the sentence is free from error, select the "No error" option.

(A) He is the most strongest/ (B) personality prescribed /
(C) in history./ (D) No error

Options :

1. ✓ A

2. ✗ B

3. ✗ C

4. ✗ D

Question Number : 123 Question Id : 54592740321 Question Type : MCQ Option Shuffling : Yes
Correct Marks : 1 Wrong Marks : 0.25

In the following statement, one part of the sentence may have an error. Find out which part of the sentence has an error and click the button corresponding to it. If the sentence is free from error, select the "No error" option.

(A) Although Manish / (B) jumped aside but / (C) the stone hit
him./ (D) No error

Options :

1. ✗ A

2. ✓ B

3. ✗ C

4. ✖ D

Question Number : 123 Question Id : 54592740321 Question Type : MCQ Option Shuffling : Yes

Correct Marks : 1 Wrong Marks : 0.25

In the following statement, one part of the sentence may have an error. Find out which part of the sentence has an error and click the button corresponding to it. If the sentence is free from error, select the "No error" option.

(A) Although Manish / (B) jumped aside but / (C) the stone hit him./ (D) No error

Options :

1. ✖ A

2. ✔ B

3. ✖ C

4. ✖ D

Question Number : 124 Question Id : 54592740322 Question Type : MCQ Option Shuffling : Yes

Correct Marks : 1 Wrong Marks : 0.25

In the following statement, one part of the sentence may have an error. Find out which part of the sentence has an error and click the button corresponding to it. If the sentence is free from error, select the "No error" option.

(A) There is no question/ (B) of Manish's failing / (C) in the assignment./ (D) No error

Options :

1. ✖ A

2. ✔ B

3. ✖ C

4. ✖ D

Question Number : 124 Question Id : 54592740322 Question Type : MCQ Option Shuffling : Yes

Correct Marks : 1 Wrong Marks : 0.25

In the following statement, one part of the sentence may have an error. Find out which part of the sentence has an error and click the button corresponding to it. If the sentence is free from error, select the "No error" option.

(A) There is no question/ (B) of Manish's failing / (C) in the assignment./ (D) No error

Options :

1. ✖ A

2. ✔ B

3. ✖ C

4. ✖ D

Question Number : 125 Question Id : 54592740323 Question Type : MCQ Option Shuffling : Yes

Correct Marks : 1 Wrong Marks : 0.25

In the following statement, one part of the sentence may have an error. Find out which part of the sentence has an error and click the button corresponding to it. If the sentence is free from error, select the "No error" option.

(A) After reaching home/ (B) he entered into the kitchen / (C) next to my room./ (D) No error

Options :

1. ✖ A

2. ✓ B

3. ✗ C

4. ✗ D

Question Number : 125 Question Id : 54592740323 Question Type : MCQ Option Shuffling : Yes
Correct Marks : 1 Wrong Marks : 0.25

In the following statement, one part of the sentence may have an error. Find out which part of the sentence has an error and click the button corresponding to it. If the sentence is free from error, select the "No error" option.

(A) After reaching home/ (B) he entered into the kitchen /
(C) next to my room./ (D) No error

Options :

1. ✗ A

2. ✓ B

3. ✗ C

4. ✗ D

Question Number : 126 Question Id : 54592740324 Question Type : MCQ Option Shuffling : Yes
Correct Marks : 1 Wrong Marks : 0.25

Replace the words in the bracket from the set of options given.

Sakshi has been here (since) 10 am.

Options :

1. ✗ from

2. ✗ in

3. ✗ with

4. ✓ No correction

Question Number : 126 Question Id : 54592740324 Question Type : MCQ Option Shuffling : Yes
Correct Marks : 1 Wrong Marks : 0.25

Replace the words in the bracket from the set of options given.

Sakshi has been here (since) 10 am.

Options :

1. ✗ from

2. ✗ in

3. ✗ with

4. ✓ No correction

Question Number : 127 Question Id : 54592740325 Question Type : MCQ Option Shuffling : Yes
Correct Marks : 1 Wrong Marks : 0.25

Replace the words in the bracket from the set of options given.

Cheetah is the (most fast) animal in the world.

Options :

1. ✓ fastest

2. ✗ more fast

3. ✗ fast

4. ✗ No correction

Question Number : 127 Question Id : 54592740325 Question Type : MCQ Option Shuffling : Yes
Correct Marks : 1 Wrong Marks : 0.25

Replace the words in the bracket from the set of options given.

Cheetah is the (most fast) animal in the world.

Options :

1. ✓ fastest
2. ✗ more fast
3. ✗ fast
4. ✗ No correction

Question Number : 128 Question Id : 54592740326 Question Type : MCQ Option Shuffling : Yes
Correct Marks : 1 Wrong Marks : 0.25

Replace the words in the bracket from the set of options given.

I need your (advices) on which bike to buy.

Options :

1. ✓ advice
2. ✗ advise
3. ✗ adviced
4. ✗ No correction

Question Number : 128 Question Id : 54592740326 Question Type : MCQ Option Shuffling : Yes
Correct Marks : 1 Wrong Marks : 0.25

Replace the words in the bracket from the set of options given.

I need your (advices) on which bike to buy.

Options :

1. ✓ advice

2. ✖ advise
3. ✖ advised
4. ✖ No correction

Question Number : 129 Question Id : 54592740327 Question Type : MCQ Option Shuffling : Yes
Correct Marks : 1 Wrong Marks : 0.25

Replace the words in the bracket from the set of options given.

(Although) Kailash didn't work hard, he didn't pass the exam.

Options :

1. ✖ Despite
2. ✖ Inspite of
3. ✔ Since
4. ✖ No correction

Question Number : 129 Question Id : 54592740327 Question Type : MCQ Option Shuffling : Yes
Correct Marks : 1 Wrong Marks : 0.25

Replace the words in the bracket from the set of options given.

(Although) Kailash didn't work hard, he didn't pass the exam.

Options :

1. ✖ Despite
2. ✖ Inspite of
3. ✔ Since
4. ✖ No correction

Question Number : 130 Question Id : 54592740328 Question Type : MCQ Option Shuffling : Yes
Correct Marks : 1 Wrong Marks : 0.25

Replace the words in the bracket from the set of options given.

He will (have exercising) an hour at 5:00 a.m.

Options :

1. ✖ have exercise
2. ✔ be exercising
3. ✖ had exercised
4. ✖ No correction

Question Number : 130 Question Id : 54592740328 Question Type : MCQ Option Shuffling : Yes

Correct Marks : 1 Wrong Marks : 0.25

Replace the words in the bracket from the set of options given.

He will (have exercising) an hour at 5:00 a.m.

Options :

1. ✖ have exercise
2. ✔ be exercising
3. ✖ had exercised
4. ✖ No correction

Question Number : 131 Question Id : 54592740329 Question Type : MCQ Option Shuffling : Yes

Correct Marks : 1 Wrong Marks : 0.25

Fill in the blanks with appropriate word.

She closed the store because the _____ of customers made it uneconomical to operate.

Options :

1. ✔ paucity

2. ✖ pathos
3. ✖ pariah
4. ✖ pellucid

Question Number : 131 Question Id : 54592740329 Question Type : MCQ Option Shuffling : Yes
Correct Marks : 1 Wrong Marks : 0.25

Fill in the blanks with appropriate word.

She closed the store because the _____ of customers made it uneconomical to operate.

Options :

1. ✔ paucity
2. ✖ pathos
3. ✖ pariah
4. ✖ pellucid

Question Number : 132 Question Id : 54592740330 Question Type : MCQ Option Shuffling : Yes
Correct Marks : 1 Wrong Marks : 0.25

Fill in the blanks with appropriate word.

I cannot understand why he has so many admirers if he is the _____ you say he is.

Options :

1. ✔ reprobate
2. ✖ replete
3. ✖ reprove
4. ✖ reckon

Question Number : 132 Question Id : 54592740330 Question Type : MCQ Option Shuffling : Yes
Correct Marks : 1 Wrong Marks : 0.25

Fill in the blanks with appropriate word.

I cannot understand why he has so many admirers if he is the _____ you say he is.

Options :

1. ✓ reprobate

2. ✗ replete

3. ✗ reprove

4. ✗ reckon

Question Number : 133 Question Id : 54592740331 Question Type : MCQ Option Shuffling : Yes

Correct Marks : 1 Wrong Marks : 0.25

Fill in the blanks with appropriate word.

The rich youth cynically declared that the _____ for all speeding tickets was a big enough bribe.

Options :

1. ✗ palliate

2. ✗ pallid

3. ✓ panacea

4. ✗ pariah

Question Number : 133 Question Id : 54592740331 Question Type : MCQ Option Shuffling : Yes

Correct Marks : 1 Wrong Marks : 0.25

Fill in the blanks with appropriate word.

The rich youth cynically declared that the _____ for all speeding tickets was a big enough bribe.

Options :

1. ✖ palliate

2. ✖ pallid

3. ✔ panacea

4. ✖ pariah

Question Number : 134 Question Id : 54592740332 Question Type : MCQ Option Shuffling : Yes
Correct Marks : 1 Wrong Marks : 0.25

Fill in the blanks with appropriate word.

The teacher hoped the retreat would increase the _____
among the feuding students.

Options :

1. ✔ camaraderie

2. ✖ buffoonery

3. ✖ benefactor

4. ✖ brandish

Question Number : 134 Question Id : 54592740332 Question Type : MCQ Option Shuffling : Yes
Correct Marks : 1 Wrong Marks : 0.25

Fill in the blanks with appropriate word.

The teacher hoped the retreat would increase the _____
among the feuding students.

Options :

1. ✔ camaraderie

2. ✖ buffoonery

3. ✖ benefactor

4. ✖ brandish

Question Number : 135 Question Id : 54592740333 Question Type : MCQ Option Shuffling : Yes

Correct Marks : 1 Wrong Marks : 0.25

Fill in the blanks with appropriate word.

Her _____ nature sometimes offended her more mature friends.

Options :

1. ✓ puerile
2. ✗ protean
3. ✗ pulchritude
4. ✗ primeval

Question Number : 135 Question Id : 54592740333 Question Type : MCQ Option Shuffling : Yes

Correct Marks : 1 Wrong Marks : 0.25

Fill in the blanks with appropriate word.

Her _____ nature sometimes offended her more mature friends.

Options :

1. ✓ puerile
2. ✗ protean
3. ✗ pulchritude
4. ✗ primeval

Question Number : 136 Question Id : 54592740334 Question Type : MCQ Option Shuffling : Yes

Correct Marks : 1 Wrong Marks : 0.25

Fill in the blanks with appropriate word.

The words to the song are _____, as the singer tends to mumble.

Options :

1. ✖ drub
2. ✖ embellish
3. ✖ entangle
4. ✔ elusive

Question Number : 136 Question Id : 54592740334 Question Type : MCQ Option Shuffling : Yes
Correct Marks : 1 Wrong Marks : 0.25

Fill in the blanks with appropriate word.

The words to the song are _____, as the singer tends to mumble.

Options :

1. ✖ drub
2. ✖ embellish
3. ✖ entangle
4. ✔ elusive

Question Number : 137 Question Id : 54592740335 Question Type : MCQ Option Shuffling : Yes
Correct Marks : 1 Wrong Marks : 0.25

Fill in the blanks with appropriate word.

What did you do _____ you were in Singapore?

Options :

1. ✖ during
2. ✖ how
3. ✖ for
4. ✔ while

Question Number : 137 Question Id : 54592740335 Question Type : MCQ Option Shuffling : Yes
Correct Marks : 1 Wrong Marks : 0.25

Fill in the blanks with appropriate word.

What did you do _____ you were in Singapore?

Options :

1. ✖ during
2. ✖ how
3. ✖ for
4. ✔ while

Question Number : 138 Question Id : 54592740336 Question Type : MCQ Option Shuffling : Yes
Correct Marks : 1 Wrong Marks : 0.25

Fill in the blanks with appropriate word.

Manisha offered a _____ of excuses for her behaviour.

Options :

1. ✖ portent
2. ✖ platitude
3. ✔ plethora
4. ✖ primeval

Question Number : 138 Question Id : 54592740336 Question Type : MCQ Option Shuffling : Yes
Correct Marks : 1 Wrong Marks : 0.25

Fill in the blanks with appropriate word.

Manisha offered a _____ of excuses for her behaviour.

Options :

1. ✖ portent
2. ✖ platitude

3. ✓ plethora

4. ✗ primeval

Question Number : 139 Question Id : 54592740337 Question Type : MCQ Option Shuffling : Yes

Correct Marks : 1 Wrong Marks : 0.25

The questions below consist of a set of labelled parts of a sentence. Out of four options given, select the most logical order of the parts which form a coherent sentence.

Large stock of population

P : possesses reasonable levels of health

Q : that it is trained and educated

R : on sound lines and

S : can be a precious asset provided

Options :

1. ✗ PQSR

2. ✗ QRSP

3. ✓ SQRP

4. ✗ RSQP

Question Number : 139 Question Id : 54592740337 Question Type : MCQ Option Shuffling : Yes

Correct Marks : 1 Wrong Marks : 0.25

The questions below consist of a set of labelled parts of a sentence. Out of four options given, select the most logical order of the parts which form a coherent sentence.

Large stock of population

P : possesses reasonable levels of health

Q : that it is trained and educated

R : on sound lines and

S : can be a precious asset provided

Options :

1. ✘ PQSR

2. ✘ QRSP

3. ✔ SQRP

4. ✘ RSQP

Question Number : 140 Question Id : 54592740338 Question Type : MCQ Option Shuffling : Yes

Correct Marks : 1 Wrong Marks : 0.25

The questions below consist of a set of labelled parts of a sentence. Out of four options given, select the most logical order of the parts which form a coherent sentence.

The rapid progress of the

P : its full fruits in the generation of

Q : fell mostly between 1500-1525

R : masters, whose mature works

S : arts in the sixteenth century bore

Options :

1. ✔ SPRQ

2. ✖ QRPS

3. ✖ RQPS

4. ✖ PSQR

Question Number : 140 Question Id : 54592740338 Question Type : MCQ Option Shuffling : Yes
Correct Marks : 1 Wrong Marks : 0.25

The questions below consist of a set of labelled parts of a sentence. Out of four options given, select the most logical order of the parts which form a coherent sentence.

The rapid progress of the

P : its full fruits in the generation of

Q : fell mostly between 1500-1525

R : masters, whose mature works

S : arts in the sixteenth century bore

Options :

1. ✔ SPRQ

2. ✖ QRPS

3. ✖ RQPS

4. ✖ PSQR

General English2

Group Number :	8
Group Id :	5459271998
Group Maximum Duration :	0
Group Minimum Duration :	0
Show Attended Group? :	No
Edit Attended Group? :	No
Break time:	0
Group Marks:	20
Is this Group for Examiner?:	No

Revisit allowed for group Instructions? :	Yes
Maximum Instruction Time:	0
Minimum Instruction Time:	0

General English2

Section Id :	5459271998
Section Number :	1
Section type :	Online
Mandatory or Optional:	Mandatory
Number of Questions:	16
Number of Questions to be attempted:	16
Section Marks:	20

Sub-Section Number:	1
Sub-Section Id:	5459272396
Question Shuffling Allowed :	Yes

Question Number : 141 Question Id : 54592740339 Question Type : MCQ Option Shuffling : Yes
Correct Marks : 1 Wrong Marks : 0.25

The question below consist of a set of labelled sentences. Out of four options given, select the most logical order of the sentences which form a paragraph.

This is a story of a tender heroine shut up in a gloomy castle

P : By the light of a flickering candle, she reads, with chills and shivering, the record of long buried crimes.

Q : There is the usual 'goose flesh' accompaniments of haunted rooms, secret panels and a subterranean passage leading to a vault, dark and creepy as a tomb.

R : At the psychological moment, the little candle suddenly goes out.

S : Here the heroine finds a chest with blood-stained papers. Then out of the darkness, a cold , clammy hand - ugh!

Options :

1. * PSQR

2. ✖ RSQP

3. ✖ SPQR

4. ✔ QSPR

Question Number : 141 Question Id : 54592740339 Question Type : MCQ Option Shuffling : Yes
Correct Marks : 1 Wrong Marks : 0.25

The question below consist of a set of labelled sentences. Out of four options given, select the most logical order of the sentences which form a paragraph.

This is a story of a tender heroine shut up in a gloomy castle

P : By the light of a flickering candle, she reads, with chills and shivering, the record of long buried crimes.

Q : There is the usual 'goose flesh' accompaniments of haunted rooms, secret panels and a subterranean passage leading to a vault, dark and creepy as a tomb.

R : At the psychological moment, the little candle suddenly goes out.

S : Here the heroine finds a chest with blood-stained papers. Then out of the darkness, a cold , clammy hand - ugh!

Options :

1. ✖ PSQR

2. ✖ RSQP

3. ✖ SPQR

4. ✔ QSPR

Question Number : 142 Question Id : 54592740340 Question Type : MCQ Option Shuffling : Yes

Correct Marks : 1 Wrong Marks : 0.25

Out of the four alternatives, choose the word which best expresses the MEANING of the given word.

Demolish

Options :

1. ✓ Wreck

2. ✗ Protest

3. ✗ Indict

4. ✗ Loathe

Question Number : 142 Question Id : 54592740340 Question Type : MCQ Option Shuffling : Yes

Correct Marks : 1 Wrong Marks : 0.25

Out of the four alternatives, choose the word which best expresses the MEANING of the given word.

Demolish

Options :

1. ✓ Wreck

2. ✗ Protest

3. ✗ Indict

4. ✗ Loathe

Question Number : 143 Question Id : 54592740341 Question Type : MCQ Option Shuffling : Yes

Correct Marks : 1 Wrong Marks : 0.25

Out of the four alternatives, choose the word which best expresses the MEANING of the given word.

Nimble

Options :

1. ✖ Sluggish
2. ✔ Prompt
3. ✖ Harass
4. ✖ Joint

Question Number : 143 Question Id : 54592740341 Question Type : MCQ Option Shuffling : Yes

Correct Marks : 1 Wrong Marks : 0.25

Out of the four alternatives, choose the word which best expresses the MEANING of the given word.

Nimble

Options :

1. ✖ Sluggish
2. ✔ Prompt
3. ✖ Harass
4. ✖ Joint

Question Number : 144 Question Id : 54592740342 Question Type : MCQ Option Shuffling : Yes

Correct Marks : 1 Wrong Marks : 0.25

Out of the four alternatives, choose the word which best expresses the MEANING of the given word.

Munificent

Options :

1. ✖ Forfeit
2. ✖ Scarce
3. ✖ Bright
4. ✔ Liberal

Question Number : 144 Question Id : 54592740342 Question Type : MCQ Option Shuffling : Yes
Correct Marks : 1 Wrong Marks : 0.25

Out of the four alternatives, choose the word which best expresses the MEANING of the given word.

Munificent

Options :

1. ✖ Forfeit
2. ✖ Scarce
3. ✖ Bright
4. ✔ Liberal

Question Number : 145 Question Id : 54592740343 Question Type : MCQ Option Shuffling : Yes
Correct Marks : 1 Wrong Marks : 0.25

Out of the four alternatives, choose the word which is OPPOSITE in meaning to the given word.

Equivocal

Options :

1. ✖ Hazy
2. ✔ Obvious
3. ✖ Obstacle
4. ✖ Keen

Question Number : 145 Question Id : 54592740343 Question Type : MCQ Option Shuffling : Yes
Correct Marks : 1 Wrong Marks : 0.25

Out of the four alternatives, choose the word which is OPPOSITE in meaning to the given word.

Equivocal

Options :

1. ✘ Hazy
2. ✔ Obvious
3. ✘ Obstacle
4. ✘ Keen

Question Number : 146 Question Id : 54592740344 Question Type : MCQ Option Shuffling : Yes
Correct Marks : 1 Wrong Marks : 0.25

Out of the four alternatives, choose the word which is OPPOSITE in meaning to the given word.

Haughty

Options :

1. ✘ Irritate
2. ✘ Peril
3. ✔ Humble
4. ✘ Arrogant

Question Number : 146 Question Id : 54592740344 Question Type : MCQ Option Shuffling : Yes
Correct Marks : 1 Wrong Marks : 0.25

Out of the four alternatives, choose the word which is OPPOSITE in meaning to the given word.

Haughty

Options :

1. ✖ Irritate
2. ✖ Peril
3. ✔ Humble
4. ✖ Arrogant

Question Number : 147 Question Id : 54592740345 Question Type : MCQ Option Shuffling : Yes
Correct Marks : 1 Wrong Marks : 0.25

Four words are given, out of which only one word is spelt correctly. Choose the correctly spelt word.

Options :

1. ✔ Antediluvian
2. ✖ Antideluvain
3. ✖ Antidiluvain
4. ✖ Antedelivuan

Question Number : 147 Question Id : 54592740345 Question Type : MCQ Option Shuffling : Yes
Correct Marks : 1 Wrong Marks : 0.25

Four words are given, out of which only one word is spelt correctly. Choose the correctly spelt word.

Options :

1. ✔ Antediluvian
2. ✖ Antideluvain
3. ✖ Antidiluvain
4. ✖ Antedelivuan

Question Number : 148 Question Id : 54592740346 Question Type : MCQ Option Shuffling : Yes
Correct Marks : 1 Wrong Marks : 0.25

Four words are given, out of which only one word is spelt correctly. Choose the correctly spelt word.

Options :

1. ✖ Garrolitious
2. ✔ Garrulous
3. ✖ Garutous
4. ✖ Garrilious

Question Number : 148 Question Id : 54592740346 Question Type : MCQ Option Shuffling : Yes
Correct Marks : 1 Wrong Marks : 0.25

Four words are given, out of which only one word is spelt correctly. Choose the correctly spelt word.

Options :

1. ✖ Garrolitious
2. ✔ Garrulous
3. ✖ Garutous
4. ✖ Garrilious

Question Number : 149 Question Id : 54592740347 Question Type : MCQ Option Shuffling : Yes
Correct Marks : 1 Wrong Marks : 0.25

Four words are given, out of which only one word is spelt correctly. Choose the correctly spelt word.

Options :

1. ✖ Partinacous
2. ✖ Pertenacious
3. ✖ Pertiniuous
4. ✔ Pertinacious

Question Number : 149 Question Id : 54592740347 Question Type : MCQ Option Shuffling : Yes
Correct Marks : 1 Wrong Marks : 0.25

Four words are given, out of which only one word is spelt correctly. Choose the correctly spelt word.

Options :

1. ✖ Partinacious
2. ✖ Pertenacious
3. ✖ Pertiniuous
4. ✔ Pertinacious

Question Number : 150 Question Id : 54592740348 Question Type : MCQ Option Shuffling : Yes
Correct Marks : 1 Wrong Marks : 0.25

What does the following idiom mean?

Not playing with a full deck

Options :

1. ✖ A job or activity that is very boring
2. ✖ Something that happens very rarely
3. ✔ Someone who is mentally ill
4. ✖ Someone who have no manners

Question Number : 150 Question Id : 54592740348 Question Type : MCQ Option Shuffling : Yes
Correct Marks : 1 Wrong Marks : 0.25

What does the following idiom mean?

Not playing with a full deck

Options :

1. ✖ A job or activity that is very boring
2. ✖ Something that happens very rarely
3. ✔ Someone who is mentally ill
4. ✖ Someone who have no manners

Question Number : 151 Question Id : 54592740349 Question Type : MCQ Option Shuffling : Yes
Correct Marks : 1 Wrong Marks : 0.25

What does the following idiom mean?

Show a clean pair of heels

Options :

1. ✖ To be very nervous
2. ✖ To keep at a distance
3. ✖ To refuse
4. ✔ To run away

Question Number : 151 Question Id : 54592740349 Question Type : MCQ Option Shuffling : Yes
Correct Marks : 1 Wrong Marks : 0.25

What does the following idiom mean?

Show a clean pair of heels

Options :

1. ✖ To be very nervous
2. ✖ To keep at a distance
3. ✖ To refuse
4. ✔ To run away

Question Number : 152 Question Id : 54592740350 Question Type : MCQ Option Shuffling : Yes
Correct Marks : 1 Wrong Marks : 0.25

What does the following idiom mean?

Hit the nail on the exact thing

Options :

1. ✖ To be highly successful
2. ✖ To get into an argument
3. ✖ To hit someone hard

4. ✓ To do or say the exact thing

Question Number : 152 Question Id : 54592740350 Question Type : MCQ Option Shuffling : Yes
Correct Marks : 1 Wrong Marks : 0.25

What does the following idiom mean?

Hit the nail on the exact thing

Options :

1. ✗ To be highly successful
2. ✗ To get into an argument
3. ✗ To hit someone hard
4. ✓ To do or say the exact thing

Question Number : 153 Question Id : 54592740351 Question Type : MCQ Option Shuffling : Yes
Correct Marks : 1 Wrong Marks : 0.25

In the following question, out of four alternatives, select the alternative which is the best substitute of the words/sentences.

A partner in crime

Options :

1. ✓ Accomplice
2. ✗ Acquittal
3. ✗ Amnesty
4. ✗ Almanac

Question Number : 153 Question Id : 54592740351 Question Type : MCQ Option Shuffling : Yes
Correct Marks : 1 Wrong Marks : 0.25

In the following question, out of four alternatives, select the alternative which is the best substitute of the words/sentences.

A partner in crime

Options :

1. ✓ Accomplice
2. ✗ Acquittal
3. ✗ Amnesty
4. ✗ Almanac

Question Number : 154 Question Id : 54592740352 Question Type : MCQ Option Shuffling : Yes

Correct Marks : 1 Wrong Marks : 0.25

In the following question, out of four alternatives, select the alternative which is the best substitute of the words/sentences.

A group of followers hired to applaud at a performance

Options :

1. ✓ Claque
2. ✗ Caucus
3. ✗ Brood
4. ✗ Cortege

Question Number : 154 Question Id : 54592740352 Question Type : MCQ Option Shuffling : Yes

Correct Marks : 1 Wrong Marks : 0.25

In the following question, out of four alternatives, select the alternative which is the best substitute of the words/sentences.

A group of followers hired to applaud at a performance

Options :

1. ✓ **Claque**
2. ✗ **Caucus**
3. ✗ **Brood**
4. ✗ **Cortege**

Question Number : 155 Question Id : 54592740353 Question Type : MCQ Option Shuffling : Yes

Correct Marks : 1 Wrong Marks : 0.25

In the following question, out of four alternatives, select the alternative which is the best substitute of the words/sentences.

A political system based on government of men by God

Options :

1. ✗ **Monarchy**
2. ✓ **Thearchy**
3. ✗ **Plutocracy**
4. ✗ **Gerontocracy**

Question Number : 155 Question Id : 54592740353 Question Type : MCQ Option Shuffling : Yes

Correct Marks : 1 Wrong Marks : 0.25

In the following question, out of four alternatives, select the alternative which is the best substitute of the words/sentences.

A political system based on government of men by God

Options :

1. ✖ Monarchy
2. ✔ Thearchy
3. ✖ Plutocracy
4. ✖ Gerontocracy

Sub-Section Number:	2
Sub-Section Id:	5459272397
Question Shuffling Allowed :	Yes

Question Id : 54592740354 Question Type : COMPREHENSION Sub Question Shuffling Allowed : Yes Group Comprehension Questions : No

Question Numbers : (156 to 160)

Question Label : Comprehension

Read the passage given below and answer the following questions.

It was the design of Angelo Ricci and Joe Czanek and Manuel Silva to call on the Terrible Old Man. This old man dwells all alone in a very ancient house on Water Street near the sea, and is reputed to be both exceedingly rich and exceedingly feeble; which forms a situation very attractive to men of the profession of Messrs. Ricci, Czanek, and Silva, for that profession was nothing less dignified than robbery.

The inhabitants of Kingsport say and think many things about the Terrible Old Man which generally keep him safe from the attention of gentlemen like Mr. Ricci and his colleagues, despite the almost certain fact that he hides a fortune of indefinite magnitude somewhere about his musty and venerable abode. He is, in truth, a very strange person, believed to have been a captain of East India clipper ships in his day; so old that no one can remember when he was young, and so taciturn that few know his real name. Among the gnarled trees in the front yard of his aged and neglected place he maintains a strange collection of large stones, oddly grouped and painted so that they resemble the idols in some obscure Eastern temple. This collection frightens away most of the small boys who love to taunt the Terrible Old Man about his long white hair and beard, or to break the small-paned windows of his dwelling with wicked missiles; but there are other things which frighten the older and more curious folk who sometimes steal up to the house to peer in through the dusty panes.

Sub questions

Question Number : 156 Question Id : 54592740355 Question Type : MCQ Option Shuffling : Yes
Correct Marks : 1 Wrong Marks : 0.25

Where did the old man live?

Options :

1. ✓ Kingsport
2. ✗ Radison
3. ✗ Queensport
4. ✗ Riverside

Question Number : 157 Question Id : 54592740356 Question Type : MCQ Option Shuffling : Yes
Correct Marks : 1 Wrong Marks : 0.25

What are the intentions of Ricci, Czanek and Silva?

Options :

1. ✗ To take revenge from the old man
2. ✗ To taunt the old man
3. ✗ To help the old man
4. ✓ To rob the old man

Question Number : 158 Question Id : 54592740357 Question Type : MCQ Option Shuffling : Yes
Correct Marks : 1 Wrong Marks : 0.25

What was the old man's profession when he was young?

Options :

1. ✗ A robber
2. ✓ A ship's captain
3. ✗ A professor
4. ✗ A gardener

Question Number : 159 Question Id : 54592740358 Question Type : MCQ Option Shuffling : Yes
Correct Marks : 1 Wrong Marks : 0.25

The Terrible Old Man used to collect strange _____.

Options :

1. ✗ missiles

2. ✖ coins

3. ✖ gems

4. ✔ stones

Question Number : 160 Question Id : 54592740359 Question Type : MCQ Option Shuffling : Yes
Correct Marks : 1 Wrong Marks : 0.25

What is the meaning of the word 'taciturn' as used in the passage?

Options :

1. ✖ cunning person

2. ✖ brave person

3. ✔ reserved person

4. ✖ coward person

Question Id : 54592740354 Question Type : COMPREHENSION Sub Question Shuffling Allowed : Yes Group Comprehension Questions : No
Question Numbers : (156 to 160)

Question Label : Comprehension

Read the passage given below and answer the following questions.

It was the design of Angelo Ricci and Joe Czaneck and Manuel Silva to call on the Terrible Old Man. This old man dwells all alone in a very ancient house on Water Street near the sea, and is reputed to be both exceedingly rich and exceedingly feeble; which forms a situation very attractive to men of the profession of Messrs. Ricci, Czaneck, and Silva, for that profession was nothing less dignified than robbery.

The inhabitants of Kingsport say and think many things about the Terrible Old Man which generally keep him safe from the attention of gentlemen like Mr. Ricci and his colleagues, despite the almost certain fact that he hides a fortune of indefinite magnitude somewhere about his musty and venerable abode. He is, in truth, a very strange person, believed to have been a captain of East India clipper ships in his day; so old that no one can remember when he was young, and so taciturn that few know his real name. Among the gnarled trees in the front yard of his aged and neglected place he maintains a strange collection of large stones, oddly grouped and painted so that they resemble the idols in some obscure Eastern temple. This collection frightens away most of the small boys who love to taunt the Terrible Old Man about his long white hair and beard, or to break the small-paned windows of his dwelling with wicked missiles; but there are other things which frighten the older and more curious folk who sometimes steal up to the house to peer in through the dusty panes.

Sub questions

Question Number : 156 Question Id : 54592740355 Question Type : MCQ Option Shuffling : Yes
Correct Marks : 1 Wrong Marks : 0.25

Where did the old man live?

Options :

1. ✓ Kingsport
2. ✗ Radison
3. ✗ Queensport
4. ✗ Riverside

Question Number : 157 Question Id : 54592740356 Question Type : MCQ Option Shuffling : Yes
Correct Marks : 1 Wrong Marks : 0.25

What are the intentions of Ricci, Czanek and Silva?

Options :

1. ✗ To take revenge from the old man
2. ✗ To taunt the old man
3. ✗ To help the old man
4. ✓ To rob the old man

Question Number : 158 Question Id : 54592740357 Question Type : MCQ Option Shuffling : Yes
Correct Marks : 1 Wrong Marks : 0.25

What was the old man's profession when he was young?

Options :

1. ✗ A robber
2. ✓ A ship's captain
3. ✗ A professor
4. ✗ A gardener

Question Number : 159 Question Id : 54592740358 Question Type : MCQ Option Shuffling : Yes
Correct Marks : 1 Wrong Marks : 0.25

The Terrible Old Man used to collect strange _____.

Options :

1. ✘ missiles
2. ✘ coins
3. ✘ gems
4. ✔ stones

Question Number : 160 Question Id : 54592740359 Question Type : MCQ Option Shuffling : Yes

Correct Marks : 1 Wrong Marks : 0.25

What is the meaning of the word 'taciturn' as used in the passage?

Options :

1. ✘ cunning person
2. ✘ brave person
3. ✔ reserved person
4. ✘ coward person

General Hindi1

Group Number :	9
Group Id :	5459271999
Group Maximum Duration :	0
Group Minimum Duration :	0
Show Attended Group? :	No
Edit Attended Group? :	No
Break time:	0
Group Marks:	20
Is this Group for Examiner?:	No
Revisit allowed for group Instructions? :	Yes
Maximum Instruction Time:	0
Minimum Instruction Time:	0

General Hindi1

Section Id :	5459271999
Section Number :	1
Section type :	Online
Mandatory or Optional:	Mandatory
Number of Questions:	20
Number of Questions to be attempted:	20
Section Marks:	20

Sub-Section Number:	1
Sub-Section Id:	5459272398
Question Shuffling Allowed :	Yes

Question Number : 161 Question Id : 54592740360 Question Type : MCQ Option Shuffling : Yes
Correct Marks : 1 Wrong Marks : 0.25

निम्नलिखित प्रश्न में, चार विकल्पों में से, उस विकल्प का चयन करें जो दिए गए शब्द के सही संधि विच्छेद का विकल्प हो।

वीरौदार्य

Options :

1. * वीरौ + उदार्य
2. * वीरो + दार्य
3. * वीरू + दर्या
4. ✓ वीर + औदार्य

Question Number : 161 Question Id : 54592740360 Question Type : MCQ Option Shuffling : Yes
Correct Marks : 1 Wrong Marks : 0.25

निम्नलिखित प्रश्न में, चार विकल्पों में से, उस विकल्प का चयन करें जो दिए गए शब्द के सही संधि विच्छेद का विकल्प हो।

वीरौदार्य

Options :

1. * वीरौ + उदार्य
2. * वीरो + दार्य
3. * वीरू + दर्या

4. ✓ वीर + औदार्य

Question Number : 162 Question Id : 54592740361 Question Type : MCQ Option Shuffling : Yes

Correct Marks : 1 Wrong Marks : 0.25

निम्नलिखित प्रश्न में, चार विकल्पों में से, उस विकल्प का चयन करें जो प्रत्यय से बने शब्द का सही विकल्प हो

Options :

1. * प्रसिद्ध
2. * विश्वास
3. ✓ रुकावट
4. * समान

Question Number : 162 Question Id : 54592740361 Question Type : MCQ Option Shuffling : Yes

Correct Marks : 1 Wrong Marks : 0.25

निम्नलिखित प्रश्न में, चार विकल्पों में से, उस विकल्प का चयन करें जो प्रत्यय से बने शब्द का सही विकल्प हो

Options :

1. * प्रसिद्ध
2. * विश्वास
3. ✓ रुकावट
4. * समान

Question Number : 163 Question Id : 54592740362 Question Type : MCQ Option Shuffling : Yes

Correct Marks : 1 Wrong Marks : 0.25

निम्नलिखित प्रश्न में, चार विकल्पों में से, उस विकल्प का चयन करें जो दिए गए शब्द का सही तद्भव रूप वाला विकल्प हो।

पुष्कर

Options :

1. * तालाब
2. ✓ पोखर

3. * पाहन

4. * बड़ा

Question Number : 163 Question Id : 54592740362 Question Type : MCQ Option Shuffling : Yes
Correct Marks : 1 Wrong Marks : 0.25

निम्नलिखित प्रश्न में, चार विकल्पों में से, उस विकल्प का चयन करें जो दिए गए शब्द का सही तद्भव रूप वाला विकल्प हो।

पुष्कर

Options :

1. * तालाब

2. ✓ पोखर

3. * पाहन

4. * बड़ा

Question Number : 164 Question Id : 54592740363 Question Type : MCQ Option Shuffling : Yes
Correct Marks : 1 Wrong Marks : 0.25

निम्नलिखित प्रश्न में, चार विकल्पों में से, उस विकल्प का चयन करें जो समूहवाचक संज्ञा का सही विकल्प है।

Options :

1. * घी

2. * हाथी

3. ✓ समिति

4. * पानी

Question Number : 164 Question Id : 54592740363 Question Type : MCQ Option Shuffling : Yes
Correct Marks : 1 Wrong Marks : 0.25

निम्नलिखित प्रश्न में, चार विकल्पों में से, उस विकल्प का चयन करें जो समूहवाचक संज्ञा का सही विकल्प है।

Options :

1. * घी

2. ✖ हाथी

3. ✔ समिति

4. ✖ पानी

Question Number : 165 Question Id : 54592740364 Question Type : MCQ Option Shuffling : Yes

Correct Marks : 1 Wrong Marks : 0.25

निम्नलिखित प्रश्न में, चार विकल्पों में से, उस विकल्प का चयन करें जो क्रिया के भेद वाला सही विकल्प हो।

खाना बनाकर वह नहाने जाएगी।

Options :

1. ✔ पूर्वकालिक क्रिया

2. ✖ नामधातु

3. ✖ प्रेरणार्थक क्रिया

4. ✖ संयुक्त क्रिया

Question Number : 165 Question Id : 54592740364 Question Type : MCQ Option Shuffling : Yes

Correct Marks : 1 Wrong Marks : 0.25

निम्नलिखित प्रश्न में, चार विकल्पों में से, उस विकल्प का चयन करें जो क्रिया के भेद वाला सही विकल्प हो।

खाना बनाकर वह नहाने जाएगी।

Options :

1. ✔ पूर्वकालिक क्रिया

2. ✖ नामधातु

3. ✖ प्रेरणार्थक क्रिया

4. ✖ संयुक्त क्रिया

Question Number : 166 Question Id : 54592740365 Question Type : MCQ Option Shuffling : Yes

Correct Marks : 1 Wrong Marks : 0.25

निम्नलिखित प्रश्न में, चार विकल्पों में से, उस विकल्प का चयन करें जो दिए गए शब्द के पर्यायवाची शब्द का सही विकल्प नहीं है।

पुरातन -

Options :

1. * प्राचीन
2. ✓ कोशिश
3. * पुराना
4. * आदिकालीन

Question Number : 166 Question Id : 54592740365 Question Type : MCQ Option Shuffling : Yes

Correct Marks : 1 Wrong Marks : 0.25

निम्नलिखित प्रश्न में, चार विकल्पों में से, उस विकल्प का चयन करें जो दिए गए शब्द के पर्यायवाची शब्द का सही विकल्प नहीं है।

पुरातन -

Options :

1. * प्राचीन
2. ✓ कोशिश
3. * पुराना
4. * आदिकालीन

Question Number : 167 Question Id : 54592740366 Question Type : MCQ Option Shuffling : Yes

Correct Marks : 1 Wrong Marks : 0.25

निम्नलिखित प्रश्न में, चार विकल्पों में से, उस विकल्प का चयन करें जो दिए गए शब्द के विलोम शब्द का सही विकल्प है।

पूर्ववर्ती -

Options :

1. * पूर्वीय

2. * विलोम
3. * अपुर्वरती
4. ✓ परवर्ती

Question Number : 167 Question Id : 54592740366 Question Type : MCQ Option Shuffling : Yes
Correct Marks : 1 Wrong Marks : 0.25

निम्नलिखित प्रश्न में, चार विकल्पों में से, उस विकल्प का चयन करें जो दिए गए शब्द के विलोम शब्द का सही विकल्प है।

पूर्ववर्ती -

Options :

1. * पूर्वीय
2. * विलोम
3. * अपुर्वरती
4. ✓ परवर्ती

Question Number : 168 Question Id : 54592740367 Question Type : MCQ Option Shuffling : Yes
Correct Marks : 1 Wrong Marks : 0.25

निम्नलिखित प्रश्न में, चार विकल्पों में से, उस सही विकल्प का चयन करें जो दिए गए शब्द-युग्म के अर्थ का सही विकल्प हो।

परजन-पर्जन्य

Options :

1. * मित्र और शत्रु
2. ✓ शत्रु और बादल
3. * बदलाव और बादल
4. * शत्रु और बदलाव

Question Number : 168 Question Id : 54592740367 Question Type : MCQ Option Shuffling : Yes
Correct Marks : 1 Wrong Marks : 0.25

निम्नलिखित प्रश्न में, चार विकल्पों में से, उस सही विकल्प का चयन करें जो दिए गए शब्द-युग्म के अर्थ का सही विकल्प हो।

परजन-पर्जन्य

Options :

1. * मित्र और शत्रु
2. ✓ शत्रु और बादल
3. * बदलाव और बादल
4. * शत्रु और बदलाव

Question Number : 169 Question Id : 54592740368 Question Type : MCQ Option Shuffling : Yes

Correct Marks : 1 Wrong Marks : 0.25

निम्नलिखित प्रश्न में, चार विकल्पों में से, उस विकल्प का चयन करें जो दिए गए वाक्यांश के लिए एक शब्द का सही विकल्प है।

जो छूने योग्य न हो -

Options :

1. * अछूता
2. ✓ अछूत
3. * अछुत
4. * अचहुता

Question Number : 169 Question Id : 54592740368 Question Type : MCQ Option Shuffling : Yes

Correct Marks : 1 Wrong Marks : 0.25

निम्नलिखित प्रश्न में, चार विकल्पों में से, उस विकल्प का चयन करें जो दिए गए वाक्यांश के लिए एक शब्द का सही विकल्प है।

जो छूने योग्य न हो -

Options :

1. * अछूता
2. ✓ अछूत
3. * अछुत
4. * अचहुता

Question Number : 170 Question Id : 54592740369 Question Type : MCQ Option Shuffling : Yes
Correct Marks : 1 Wrong Marks : 0.25

निम्नलिखित प्रश्न में, चार विकल्पों में से, उस सही विकल्प का चयन करें जो रिक्त स्थान के लिए उचित विकल्प हो।

_____ समय में मैं अपना कार्य पूर्ण कर लूँगा।

Options :

1. ✓ नियत
2. * नीयत
3. * अवधि
4. * जीवित

Question Number : 170 Question Id : 54592740369 Question Type : MCQ Option Shuffling : Yes
Correct Marks : 1 Wrong Marks : 0.25

निम्नलिखित प्रश्न में, चार विकल्पों में से, उस सही विकल्प का चयन करें जो रिक्त स्थान के लिए उचित विकल्प हो।

_____ समय में मैं अपना कार्य पूर्ण कर लूँगा।

Options :

1. ✓ नियत
2. * नीयत
3. * अवधि
4. * जीवित

Question Number : 171 Question Id : 54592740370 Question Type : MCQ Option Shuffling : Yes
Correct Marks : 1 Wrong Marks : 0.25

निम्नलिखित प्रश्न में, चार विकल्पों में से, उस विकल्प का चयन करें जो दिए गए शब्द के समानार्थी शब्द का सही विकल्प नहीं है।

घोड़ा -

Options :

1. * हय
2. * वाजि
3. * घोटक
4. ✓ दनुज

Question Number : 171 Question Id : 54592740370 Question Type : MCQ Option Shuffling : Yes
Correct Marks : 1 Wrong Marks : 0.25

निम्नलिखित प्रश्न में, चार विकल्पों में से, उस विकल्प का चयन करें जो दिए गए शब्द के समानार्थी शब्द का सही विकल्प नहीं है।

घोड़ा -

Options :

1. * हय
2. * वाजि
3. * घोटक
4. ✓ दनुज

Question Number : 172 Question Id : 54592740371 Question Type : MCQ Option Shuffling : Yes
Correct Marks : 1 Wrong Marks : 0.25

निम्नलिखित प्रश्न में, चार विकल्पों में से, उस सही विकल्प का चयन करें जो रिक्त स्थान के लिए उपयुक्त शब्द का सही विकल्प है।

अध्यापक अपनी वाणी पर पूर्ण _____ रखते हैं।

Options :

1. ✓ अधिकार
2. * अत्याचार
3. * उपयोग
4. * जीवन

Question Number : 172 Question Id : 54592740371 Question Type : MCQ Option Shuffling : Yes
Correct Marks : 1 Wrong Marks : 0.25

निम्नलिखित प्रश्न में, चार विकल्पों में से, उस सही विकल्प का चयन करें जो रिक्त स्थान के लिए उपयुक्त शब्द का सही विकल्प है।

अध्यापक अपनी वाणी पर पूर्ण _____ रखते हैं।

Options :

1. ✓ अधिकार
2. * अत्याचार
3. * उपयोग
4. * जीवन

Question Number : 173 Question Id : 54592740372 Question Type : MCQ Option Shuffling : Yes
Correct Marks : 1 Wrong Marks : 0.25

निम्नलिखित प्रश्न में, चार विकल्पों में से, उस विकल्प का चयन करें जो शुद्ध शब्द का सही विकल्प है।

Options :

1. ✓ अभ्युदय
2. * अभयुदय
3. * अभूद्य
4. * अभायद्य

Question Number : 173 Question Id : 54592740372 Question Type : MCQ Option Shuffling : Yes
Correct Marks : 1 Wrong Marks : 0.25

निम्नलिखित प्रश्न में, चार विकल्पों में से, उस विकल्प का चयन करें जो शुद्ध शब्द का सही विकल्प है।

Options :

1. ✓ अभ्युदय
2. ✗ अभयुदय
3. ✗ अभूदय
4. ✗ अभायदय

Question Number : 174 Question Id : 54592740373 Question Type : MCQ Option Shuffling : Yes

Correct Marks : 1 Wrong Marks : 0.25

निम्नलिखित प्रश्न में, चार विकल्पों में से, उस विकल्प का चयन करें जो शुद्ध शब्द का सही विकल्प है।

Options :

1. ✓ सीमांकित
2. ✗ सिमंकीत
3. ✗ सीमंकीत
4. ✗ सिमानकित

Question Number : 174 Question Id : 54592740373 Question Type : MCQ Option Shuffling : Yes

Correct Marks : 1 Wrong Marks : 0.25

निम्नलिखित प्रश्न में, चार विकल्पों में से, उस विकल्प का चयन करें जो शुद्ध शब्द का सही विकल्प है।

Options :

1. ✓ सीमांकित
2. ✗ सिमंकीत
3. ✗ सीमंकीत
4. ✗ सिमानकित

Question Number : 175 Question Id : 54592740374 Question Type : MCQ Option Shuffling : Yes

Correct Marks : 1 Wrong Marks : 0.25

निम्नलिखित प्रश्न में, चार विकल्पों में से, उस विकल्प का चयन करें जो शुद्ध शब्द का सही विकल्प है।

Options :

1. * सत्यगृह
2. * सत्याग्रिहा
3. * सत्यग्रह
4. ✓ सत्याग्रह

Question Number : 175 Question Id : 54592740374 Question Type : MCQ Option Shuffling : Yes

Correct Marks : 1 Wrong Marks : 0.25

निम्नलिखित प्रश्न में, चार विकल्पों में से, उस विकल्प का चयन करें जो शुद्ध शब्द का सही विकल्प है।

Options :

1. * सत्यगृह
2. * सत्याग्रिहा
3. * सत्यग्रह
4. ✓ सत्याग्रह

Question Number : 176 Question Id : 54592740375 Question Type : MCQ Option Shuffling : Yes

Correct Marks : 1 Wrong Marks : 0.25

निम्नलिखित प्रश्न में, चार विकल्पों में से, उस विकल्प का चयन करें जो सदा पुल्लिंग शब्द वाला सही विकल्प है।

Options :

1. * जूं
2. ✓ लगाव
3. * गर्दन
4. * झोपड़ी

Question Number : 176 Question Id : 54592740375 Question Type : MCQ Option Shuffling : Yes

Correct Marks : 1 Wrong Marks : 0.25

निम्नलिखित प्रश्न में, चार विकल्पों में से, उस विकल्प का चयन करें जो सदा पुल्लिंग शब्द वाला सही विकल्प है।

Options :

1. ✖ जू
2. ✔ लगाव
3. ✖ गर्दन
4. ✖ झोपड़ी

Question Number : 177 Question Id : 54592740376 Question Type : MCQ Option Shuffling : Yes
Correct Marks : 1 Wrong Marks : 0.25

निम्नलिखित प्रश्न में, चार विकल्पों में से, उस विकल्प का चयन करें जो सदा स्त्रीलिंग वाला शब्द है।

Options :

1. ✔ रामायण
2. ✖ चैत
3. ✖ क्षण
4. ✖ रस्सा

Question Number : 177 Question Id : 54592740376 Question Type : MCQ Option Shuffling : Yes
Correct Marks : 1 Wrong Marks : 0.25

निम्नलिखित प्रश्न में, चार विकल्पों में से, उस विकल्प का चयन करें जो सदा स्त्रीलिंग वाला शब्द है।

Options :

1. ✔ रामायण
2. ✖ चैत
3. ✖ क्षण
4. ✖ रस्सा

Question Number : 178 Question Id : 54592740377 Question Type : MCQ Option Shuffling : Yes
Correct Marks : 1 Wrong Marks : 0.25

निम्नलिखित प्रश्न में, चार विकल्पों में से, उस विकल्प का चयन करें जो सदा एकवचन शब्द का सबसे अच्छा विकल्प है।

Options :

1. ✓ रायता
2. * दाम
3. * समाचार
4. * बकरियाँ

Question Number : 178 Question Id : 54592740377 Question Type : MCQ Option Shuffling : Yes

Correct Marks : 1 Wrong Marks : 0.25

निम्नलिखित प्रश्न में, चार विकल्पों में से, उस विकल्प का चयन करें जो सदा एकवचन शब्द का सबसे अच्छा विकल्प है।

Options :

1. ✓ रायता
2. * दाम
3. * समाचार
4. * बकरियाँ

Question Number : 179 Question Id : 54592740378 Question Type : MCQ Option Shuffling : Yes

Correct Marks : 1 Wrong Marks : 0.25

निम्नलिखित प्रश्न में, चार विकल्पों में से, उस विकल्प का चयन करें जो कोष्ठक में दिए गए शब्द के अनुसार मध्यम पुरुष वाचक सर्वनाम का सबसे अच्छा विकल्प है।

Options :

1. * (मैं) आज कोई भी काम नहीं करूँगा।
2. * (मुझे) किसी से भी कुछ नहीं कहना है।
3. ✓ (तुम्हें) कोई भी बात समझ में क्यों नहीं आती है?
4. * (आप) यहाँ से जल्द-से-जल्द चले जाइए।

Question Number : 179 Question Id : 54592740378 Question Type : MCQ Option Shuffling : Yes

Correct Marks : 1 Wrong Marks : 0.25

निम्नलिखित प्रश्न में, चार विकल्पों में से, उस विकल्प का चयन करें जो कोष्ठक में दिए गए शब्द के अनुसार मध्यम पुरुष वाचक सर्वनाम का सबसे अच्छा विकल्प है।

Options :

1. * (मैं) आज कोई भी काम नहीं करूँगा।
2. * (मुझे) किसी से भी कुछ नहीं कहना है।
3. ✓ (तुम्हें) कोई भी बात समझ में क्यों नहीं आती है?
4. * (आप) यहाँ से जल्द-से-जल्द चले जाइए।

Question Number : 180 Question Id : 54592740379 Question Type : MCQ Option Shuffling : Yes

Correct Marks : 1 Wrong Marks : 0.25

निम्नलिखित प्रश्न में, चार विकल्पों में से, उस विकल्प का चयन करें जो दिए गए वाक्य के काल के भेद का सही विकल्प हो।

हो सकता है कि मैं कल छुट्टी लूँ।

Options :

1. * सामान्य वर्तकाल
2. ✓ संभाव्य भविष्यकाल
3. * अपूर्ण भूतकाल
4. * अपूर्ण वर्तमानकाल

Question Number : 180 Question Id : 54592740379 Question Type : MCQ Option Shuffling : Yes

Correct Marks : 1 Wrong Marks : 0.25

निम्नलिखित प्रश्न में, चार विकल्पों में से, उस विकल्प का चयन करें जो दिए गए वाक्य के काल के भेद का सही विकल्प हो।

हो सकता है कि मैं कल छुट्टी लूँ।

Options :

1. * सामान्य वर्तकाल

2. ✓ संभाव्य भविष्यकाल

3. ✘ अपूर्ण भूतकाल

4. ✘ अपूर्ण वर्तमानकाल

General Hindi2

Group Number :	10
Group Id :	5459272000
Group Maximum Duration :	0
Group Minimum Duration :	120
Show Attended Group? :	No
Edit Attended Group? :	No
Break time:	0
Group Marks:	20
Is this Group for Examiner? :	No
Revisit allowed for group Instructions? :	Yes
Maximum Instruction Time:	0
Minimum Instruction Time:	0

General Hindi2

Section Id :	5459272000
Section Number :	1
Section type :	Online
Mandatory or Optional:	Mandatory
Number of Questions:	16
Number of Questions to be attempted:	16
Section Marks:	20

Sub-Section Number:	1
Sub-Section Id:	5459272399
Question Shuffling Allowed :	Yes

Question Number : 181 Question Id : 54592740380 Question Type : MCQ Option Shuffling : Yes

Correct Marks : 1 Wrong Marks : 0.25

निम्नलिखित प्रश्न में, चार विकल्पों में से, उस विकल्प का चयन करें जो दिए गए वाक्य के लिए वृत्ति के भेद का सबसे अच्छा विकल्प है।

सोहम बीमार है।

Options :

1. * संदेहार्थ
2. ✓ निश्चयार्थ
3. * संकेतार्थ
4. * संभावनार्थ

Question Number : 181 Question Id : 54592740380 Question Type : MCQ Option Shuffling : Yes
Correct Marks : 1 Wrong Marks : 0.25

निम्नलिखित प्रश्न में, चार विकल्पों में से, उस विकल्प का चयन करें जो दिए गए वाक्य के लिए वृत्ति के भेद का सबसे अच्छा विकल्प है।

सोहम बीमार है।

Options :

1. * संदेहार्थ
2. ✓ निश्चयार्थ
3. * संकेतार्थ
4. * संभावनार्थ

Question Number : 182 Question Id : 54592740381 Question Type : MCQ Option Shuffling : Yes
Correct Marks : 1 Wrong Marks : 0.25

निम्नलिखित प्रश्न में, चार विकल्पों में से, उस विकल्प का चयन करें जो दिए गए वाक्य के लिए पक्ष के भेद का सबसे अच्छा विकल्प है।

डाइवर बहुत अच्छा गाड़ी चला रहा है!

Options :

1. * आरंभद्योतक
2. * प्रगतिद्योतक
3. ✓ सातप्यबोधक
4. * पूर्णताद्योतक

Question Number : 182 Question Id : 54592740381 Question Type : MCQ Option Shuffling : Yes
Correct Marks : 1 Wrong Marks : 0.25

निम्नलिखित प्रश्न में, चार विकल्पों में से, उस विकल्प का चयन करें जो दिए गए वाक्य के लिए पक्ष के भेद का सबसे अच्छा विकल्प है।

डाइवर बहुत अच्छा गाड़ी चला रहा है!

Options :

1. * आरंभद्योतक
2. * प्रगतिद्योतक
3. ✓ सातप्यबोधक
4. * पूर्णताद्योतक

Question Number : 183 Question Id : 54592740382 Question Type : MCQ Option Shuffling : Yes

Correct Marks : 1 Wrong Marks : 0.25

निम्न विकल्पों में से निर्देशानुसार वाच्य परिवर्तन का विकल्प चुनिए।

राजू तेज़ नहीं दौड़ता (भाववाच्य)

Options :

1. * नहीं दौड़ा जाता तेज़ राजू से
2. ✓ राजू से तेज़ नहीं दौड़ा जाता
3. * दौड़ना अब राजू के बस में नहीं
4. * राजू बाद में दौड़ेगा

Question Number : 183 Question Id : 54592740382 Question Type : MCQ Option Shuffling : Yes

Correct Marks : 1 Wrong Marks : 0.25

निम्न विकल्पों में से निर्देशानुसार वाच्य परिवर्तन का विकल्प चुनिए।

राजू तेज़ नहीं दौड़ता (भाववाच्य)

Options :

1. * नहीं दौड़ा जाता तेज़ राजू से
2. ✓ राजू से तेज़ नहीं दौड़ा जाता

3. * दौड़ना अब राजू के बस में नहीं

4. * राजू बाद में दौड़ेगा

Question Number : 184 Question Id : 54592740383 Question Type : MCQ Option Shuffling : Yes

Correct Marks : 1 Wrong Marks : 0.25

निम्नलिखित प्रश्न में, चार विकल्पों में से, उस विकल्प का चयन करें जो सही वाक्य भेद का विकल्प हो।

जब असफल हो गए, तो शोक करना व्यर्थ है।

Options :

1. * संयुक्त वाक्य

2. ✓ मिश्र वाक्य

3. * संदेहवाचक वाक्य

4. * संकेतवाचक वाक्य

Question Number : 184 Question Id : 54592740383 Question Type : MCQ Option Shuffling : Yes

Correct Marks : 1 Wrong Marks : 0.25

निम्नलिखित प्रश्न में, चार विकल्पों में से, उस विकल्प का चयन करें जो सही वाक्य भेद का विकल्प हो।

जब असफल हो गए, तो शोक करना व्यर्थ है।

Options :

1. * संयुक्त वाक्य

2. ✓ मिश्र वाक्य

3. * संदेहवाचक वाक्य

4. * संकेतवाचक वाक्य

Question Number : 185 Question Id : 54592740384 Question Type : MCQ Option Shuffling : Yes

Correct Marks : 1 Wrong Marks : 0.25

निम्नलिखित प्रश्न में, चार विकल्पों में से, उस विकल्प का चयन करें जो सही वाक्य भेद का विकल्प हो।

जब उसने मुझे देखा तो भाग गया।

Options :

1. * संयुक्त वाक्य
2. * संकेतवाचक वाक्य
3. ✓ मिश्र वाक्य
4. * सरल वाक्य

Question Number : 185 Question Id : 54592740384 Question Type : MCQ Option Shuffling : Yes

Correct Marks : 1 Wrong Marks : 0.25

निम्नलिखित प्रश्न में, चार विकल्पों में से, उस विकल्प का चयन करें जो सही वाक्य भेद का विकल्प हो।

जब उसने मुझे देखा तो भाग गया।

Options :

1. * संयुक्त वाक्य
2. * संकेतवाचक वाक्य
3. ✓ मिश्र वाक्य
4. * सरल वाक्य

Question Number : 186 Question Id : 54592740385 Question Type : MCQ Option Shuffling : Yes

Correct Marks : 1 Wrong Marks : 0.25

निम्नलिखित प्रश्न में, चार विकल्पों में से, उस विकल्प का चयन करें जो सही वाक्य भेद का विकल्प हो।

जैसे ही मैंने दूध पिया, मैं सो गया।

Options :

1. * संयुक्त वाक्य

2. * संकेतवाचक वाक्य

3. ✓ मिश्र वाक्य

4. * सरल वाक्य

Question Number : 186 Question Id : 54592740385 Question Type : MCQ Option Shuffling : Yes

Correct Marks : 1 Wrong Marks : 0.25

निम्नलिखित प्रश्न में, चार विकल्पों में से, उस विकल्प का चयन करें जो सही वाक्य भेद का विकल्प हो।

जैसे ही मैंने दूध पिया, मैं सो गया।

Options :

1. * संयुक्त वाक्य

2. * संकेतवाचक वाक्य

3. ✓ मिश्र वाक्य

4. * सरल वाक्य

Question Number : 187 Question Id : 54592740386 Question Type : MCQ Option Shuffling : Yes

Correct Marks : 1 Wrong Marks : 0.25

निम्नलिखित प्रश्न में, चार विकल्पों में से, उस विकल्प का चयन करें जो शुद्ध वाक्य का सबसे अच्छा विकल्प है।

Options :

1. * रावण का लंका नगर था

2. * नगर था रावण का लंका

3. * लंका रावण का नगर था

4. ✓ लंका रावण की नगरी थी

Question Number : 187 Question Id : 54592740386 Question Type : MCQ Option Shuffling : Yes

Correct Marks : 1 Wrong Marks : 0.25

निम्नलिखित प्रश्न में, चार विकल्पों में से, उस विकल्प का चयन करें जो शुद्ध वाक्य का सबसे अच्छा विकल्प है।

Options :

1. * रावण का लंका नगर था
2. * नगर था रावण का लंका
3. * लंका रावण का नगर था
4. ✓ लंका रावण की नगरी थी

Question Number : 188 Question Id : 54592740387 Question Type : MCQ Option Shuffling : Yes
Correct Marks : 1 Wrong Marks : 0.25

निम्नलिखित प्रश्न में, चार विकल्पों में से, उस विकल्प का चयन करें जो विराम चिह्न युक्त वाक्य का सही विकल्प हो।

Options :

1. * मैं उससे प्यार करता हूँ; "पर वह मुझे पसंद नहीं करती।"
2. ✓ मैं उससे प्यार करता हूँ; पर वह मुझे पसंद नहीं करती।
3. * मैं उससे प्यार करता हूँ; पर वह मुझे पसंद नहीं करती?
4. * मैं उससे प्यार करता हूँ! पर वह मुझे पसंद नहीं करती।

Question Number : 188 Question Id : 54592740387 Question Type : MCQ Option Shuffling : Yes
Correct Marks : 1 Wrong Marks : 0.25

निम्नलिखित प्रश्न में, चार विकल्पों में से, उस विकल्प का चयन करें जो विराम चिह्न युक्त वाक्य का सही विकल्प हो।

Options :

1. * मैं उससे प्यार करता हूँ; "पर वह मुझे पसंद नहीं करती।"
2. ✓ मैं उससे प्यार करता हूँ; पर वह मुझे पसंद नहीं करती।
3. * मैं उससे प्यार करता हूँ; पर वह मुझे पसंद नहीं करती?
4. * मैं उससे प्यार करता हूँ! पर वह मुझे पसंद नहीं करती।

Question Number : 189 Question Id : 54592740388 Question Type : MCQ Option Shuffling : Yes
Correct Marks : 1 Wrong Marks : 0.25

निम्नलिखित प्रश्न में, चार विकल्पों में से, उस विकल्प का चयन करें जो विराम चिह्न युक्त वाक्य का सही विकल्प हो।

Options :

1. * वह चोर- जो यहाँ आया था- पकड़ा गया।

2. * "वह चोर, जो यहाँ आया था, पकड़ा गया।"

3. * वह चोर, "जो यहाँ आया था, पकड़ा गया।"

4. ✓ वह चोर, जो यहाँ आया था, पकड़ा गया।

Question Number : 189 Question Id : 54592740388 Question Type : MCQ Option Shuffling : Yes
Correct Marks : 1 Wrong Marks : 0.25

निम्नलिखित प्रश्न में, चार विकल्पों में से, उस विकल्प का चयन करें जो विराम चिह्न युक्त वाक्य का सही विकल्प हो।

Options :

1. * वह चोर- जो यहाँ आया था- पकड़ा गया।

2. * "वह चोर, जो यहाँ आया था, पकड़ा गया।"

3. * वह चोर, "जो यहाँ आया था, पकड़ा गया।"

4. ✓ वह चोर, जो यहाँ आया था, पकड़ा गया।

Question Number : 190 Question Id : 54592740389 Question Type : MCQ Option Shuffling : Yes
Correct Marks : 1 Wrong Marks : 0.25

निम्नलिखित प्रश्न में, चार विकल्पों में से, उस विकल्प का चयन करें जो विराम चिह्न युक्त वाक्य का सही विकल्प हो।

Options :

1. * मुझे भीड़, भाड़ वाला इलाका पसंद नहीं।

2. ✓ मुझे भीड़-भाड़ वाला इलाका पसंद नहीं।

3. * मुझे भीड़ भाड़ वाला इलाका पसंद नहीं

4. * मुझे, भीड़-भाड़ वाला इलाका पसंद नहीं।

Question Number : 190 Question Id : 54592740389 Question Type : MCQ Option Shuffling : Yes
Correct Marks : 1 Wrong Marks : 0.25

निम्नलिखित प्रश्न में, चार विकल्पों में से, उस विकल्प का चयन करें जो विराम चिह्न युक्त वाक्य का सही विकल्प हो।

Options :

1. * मुझे भीड़, भाड़ वाला इलाका पसंद नहीं।

2. ✓ मुझे भीड़-भाड़ वाला इलाका पसंद नहीं।

3. * मुझे भीड़ भाड़ वाला इलाका पसंद नहीं

4. * मुझे, भीड़-भाड़ वाला इलाका पसंद नहीं।

Question Number : 191 Question Id : 54592740390 Question Type : MCQ Option Shuffling : Yes

Correct Marks : 1 Wrong Marks : 0.25

निम्नलिखित प्रश्न में, चार विकल्पों में से, उस विकल्प का चयन करें जो दिए गए मुहावरे के लिए सही अर्थ वाला विकल्प है।

आड़े हाथों लेना

Options :

1. * धोखेबाज़

2. ✓ कठोरता से पेश आना

3. * असंभव काम

4. * कष्ट होना

Question Number : 191 Question Id : 54592740390 Question Type : MCQ Option Shuffling : Yes

Correct Marks : 1 Wrong Marks : 0.25

निम्नलिखित प्रश्न में, चार विकल्पों में से, उस विकल्प का चयन करें जो दिए गए मुहावरे के लिए सही अर्थ वाला विकल्प है।

आड़े हाथों लेना

Options :

1. * धोखेबाज़

2. ✓ कठोरता से पेश आना

3. * असंभव काम

4. * कष्ट होना

Question Number : 192 Question Id : 54592740391 Question Type : MCQ Option Shuffling : Yes

Correct Marks : 1 Wrong Marks : 0.25

निम्नलिखित प्रश्न में, चार विकल्पों में से, उस विकल्प का चयन करें जो दिए गए मुहावरे के लिए सही अर्थ वाला विकल्प है।

खाई पाटना

Options :

1. * सड़क बनाना
2. ✓ मन मुटाव कम करना
3. * खाई बनाना
4. * नष्ट करना

Question Number : 192 Question Id : 54592740391 Question Type : MCQ Option Shuffling : Yes

Correct Marks : 1 Wrong Marks : 0.25

निम्नलिखित प्रश्न में, चार विकल्पों में से, उस विकल्प का चयन करें जो दिए गए मुहावरे के लिए सही अर्थ वाला विकल्प है।

खाई पाटना

Options :

1. * सड़क बनाना
2. ✓ मन मुटाव कम करना
3. * खाई बनाना
4. * नष्ट करना

Question Number : 193 Question Id : 54592740392 Question Type : MCQ Option Shuffling : Yes

Correct Marks : 1 Wrong Marks : 0.25

निम्नलिखित प्रश्न में, चार विकल्पों में से, उस विकल्प का चयन करें जो दी गई लोकोक्ति के लिए सही अर्थ वाला विकल्प है।

भागते भूत की लंगोटी भली

Options :

1. * अचानक लाभ होना

2. * अयोग्य व्यक्ति और ज्ञान की बातें

3. ✓ जो मिला वही बहुत

4. * उपदेश देना

Question Number : 193 Question Id : 54592740392 Question Type : MCQ Option Shuffling : Yes

Correct Marks : 1 Wrong Marks : 0.25

निम्नलिखित प्रश्न में, चार विकल्पों में से, उस विकल्प का चयन करें जो दी गई लोकोक्ति के लिए सही अर्थ वाला विकल्प है।

भागते भूत की लंगोटी भली

Options :

1. * अचानक लाभ होना

2. * अयोग्य व्यक्ति और ज्ञान की बातें

3. ✓ जो मिला वही बहुत

4. * उपदेश देना

Question Number : 194 Question Id : 54592740393 Question Type : MCQ Option Shuffling : Yes

Correct Marks : 1 Wrong Marks : 0.25

निम्नलिखित प्रश्न में, चार विकल्पों में से, उस सही विकल्प का चयन करें जो दी गई लोकोक्ति के लिए सही अर्थ वाला विकल्प है।

लकड़ी के बल बंदर नाचे

Options :

1. * करतब दिखाना

2. ✓ भय से ही काम होता है

3. * नचाना

4. * बिना हानि के काम होना

Question Number : 194 Question Id : 54592740393 Question Type : MCQ Option Shuffling : Yes

Correct Marks : 1 Wrong Marks : 0.25

निम्नलिखित प्रश्न में, चार विकल्पों में से, उस सही विकल्प का चयन करें जो दी गई लोकोक्ति के लिए सही अर्थ वाला विकल्प है।

लकड़ी के बल बंदर नाचे

Options :

1. * करतब दिखाना
2. ✓ भय से ही काम होता है
3. * नचाना
4. * बिना हानि के काम होना

Question Number : 195 Question Id : 54592740394 Question Type : MCQ Option Shuffling : Yes

Correct Marks : 1 Wrong Marks : 0.25

निम्नलिखित प्रश्न में, चार विकल्पों में से, उस सही विकल्प का चयन करें जो दी गई लोकोक्ति के लिए सही अर्थ वाला विकल्प है।

कड़वा थू-थू, मीठा गप-गप

Options :

1. ✓ अच्छी चीज़ लेना और बुरे को फेंक देना
2. * जैसे को तैसा करना
3. * फायदेमंद बात
4. * मन का उत्साह कम करना

Question Number : 195 Question Id : 54592740394 Question Type : MCQ Option Shuffling : Yes

Correct Marks : 1 Wrong Marks : 0.25

निम्नलिखित प्रश्न में, चार विकल्पों में से, उस सही विकल्प का चयन करें जो दी गई लोकोक्ति के लिए सही अर्थ वाला विकल्प है।

कड़वा थू-थू, मीठा गप-गप

Options :

1. ✓ अच्छी चीज़ लेना और बुरे को फेंक देना

2. * जैसे को तैसा करना

3. * फायदेमंद बात

4. * मन का उत्साह कम करना

Sub-Section Number: 2
Sub-Section Id: 5459272400
Question Shuffling Allowed : Yes

Question Id : 54592740395 Question Type : COMPREHENSION Sub Question Shuffling Allowed : Yes Group Comprehension Questions : No

Question Numbers : (196 to 200)

Question Label : Comprehension

इस गद्यांश को ध्यानपूर्वक पढ़ें और चार विकल्पों में से प्रत्येक प्रश्न का सर्वोत्तम उत्तर चुनें।

विद्यार्थियों में बढ़ती हुई अनुशासनहीनता के कारणों में संभवतः सर्वाधिक मुख्य कारण यह है कि प्रायः विद्यार्थी अनुशासन के लाभों से अपरिचित होते हैं। उन्हें मालूम नहीं होता कि अनुशासन से जीवन सुखी एवं शांत बन जाता है। अनुशासनहीनता का दूसरा कारण यह है कि आज की शिक्षा प्रणाली में आचरण को केवल व्यक्तिगत विषय समझ लिया गया है। विद्यार्थियों को आचरण-संबंधी शिक्षा नहीं दी जाती है तथा पुस्तकीय ज्ञान को ही सब कुछ मान लिया गया है। फलतः विद्यार्थियों की चंचल मानसिक प्रवृत्ति निरंतर उदंडता की ओर उन्मुख होती चली जाती है। अतः यह आवश्यक है कि हम अपनी शिक्षा पद्धति में सुधार करें तथा आचार-शास्त्र को भी आरंभिक कक्षाओं में अनिवार्य तथा उच्च कक्षाओं में वैकल्पिक विषय के रूप में स्थान दें। इसके साथ ही हमें विद्यार्थियों को यह भी बताना चाहिए कि अनुशासन किस प्रकार से उनके भावी जीवन के विकास में सहायक बन सकता है। हमें विद्यार्थियों को इस बात की शिक्षा देनी चाहिए कि अनुशासन के माध्यम से मन पर नियंत्रण करने की कला भी आती है।

Sub questions

Question Number : 196 Question Id : 54592740396 Question Type : MCQ Option Shuffling : Yes

Correct Marks : 1 Wrong Marks : 0.25

विद्यार्थियों में बढ़ती हुई अनुशासनहीनता का प्रथम और मुख्य कारण क्या है?

Options :

1. ✓ अनुशासन के लाभ से अपरिचित होना
2. * पुस्तकीय ज्ञान
3. * वैकल्पिक विषय
4. * ध्यान न देना

Question Number : 197 Question Id : 54592740397 Question Type : MCQ Option Shuffling : Yes
Correct Marks : 1 Wrong Marks : 0.25

अनुशासन के माध्यम से विद्यार्थी कौन सी कला सीख सकता है?

Options :

1. * अनुशासन की
2. * उद्वेगता की
3. * मानसिक प्रवृत्ति की
4. ✓ मन पर नियंत्रण की

Question Number : 198 Question Id : 54592740398 Question Type : MCQ Option Shuffling : Yes
Correct Marks : 1 Wrong Marks : 0.25

आज विद्यार्थियों को क्या बताने की आवश्यकता है?

Options :

1. * आचार-विचार
2. * क्या अनिवार्य विषय हो सकता है
3. * कैसे व्यवसाय वे देख सकते हैं
4. ✓ कैसे अनुशासन भविष्य के लिए आवश्यक है

Question Number : 199 Question Id : 54592740399 Question Type : MCQ Option Shuffling : Yes
Correct Marks : 1 Wrong Marks : 0.25

इनमें से कौन - सा उद्वेगता का पर्यायवाची शब्द नहीं है?

Options :

1. * दुष्टता
2. ✓ अनुशासित
3. * दुस्साहस
4. * अकखड़पन

Question Number : 200 Question Id : 54592740400 Question Type : MCQ Option Shuffling : Yes

Correct Marks : 1 Wrong Marks : 0.25

इस अनुच्छेद का कोई उपयुक्त शीर्षक-

Options :

1. * विद्यार्थी जीवन
2. * विद्यालयी शिक्षा
3. ✓ अनुशासन का महत्त्व
4. * जीवन का नियंत्रण

Question Id : 54592740395 Question Type : COMPREHENSION Sub Question Shuffling Allowed : Yes Group Comprehension Questions : No

Question Numbers : (196 to 200)

Question Label : Comprehension

इस गद्यांश को ध्यानपूर्वक पढ़ें और चार विकल्पों में से प्रत्येक प्रश्न का सर्वोत्तम उत्तर चुनें।

विद्यार्थियों में बढ़ती हुई अनुशासनहीनता के कारणों में संभवतः सर्वाधिक मुख्य कारण यह है कि प्रायः विद्यार्थी अनुशासन के लाभों से अपरिचित होते हैं। उन्हें मालूम नहीं होता कि अनुशासन से जीवन सुखी एवं शांत बन जाता है। अनुशासनहीनता का दूसरा कारण यह है कि आज की शिक्षा प्रणाली में आचरण को केवल व्यक्तिगत विषय समझ लिया गया है। विद्यार्थियों को आचरण-संबंधी शिक्षा नहीं दी जाती है तथा पुस्तकीय ज्ञान को ही सब कुछ मान लिया गया है। फलतः विद्यार्थियों की चंचल मानसिक प्रवृत्ति निरंतर उद्वेगता की ओर उन्मुख होती चली जाती है। अतः यह आवश्यक है कि हम अपनी शिक्षा पद्धति में सुधार करें तथा आचार-शास्त्र को भी आरंभिक कक्षाओं में अनिवार्य तथा उच्च कक्षाओं में वैकल्पिक विषय के रूप में स्थान दें। इसके साथ ही हमें विद्यार्थियों को यह भी बताना चाहिए कि अनुशासन किस प्रकार से उनके भावी जीवन के विकास में सहायक बन सकता है। हमें विद्यार्थियों को इस बात की शिक्षा देनी चाहिए कि अनुशासन के माध्यम से मन पर नियंत्रण करने की कला भी आती है।

Sub questions

Question Number : 196 Question Id : 54592740396 Question Type : MCQ Option Shuffling : Yes

Correct Marks : 1 Wrong Marks : 0.25

विद्यार्थियों में बढ़ती हुई अनुशासनहीनता का प्रथम और मुख्य कारण क्या है?

Options :

1. ✓ अनुशासन के लाभ से अपरिचित होना
2. ✗ पुस्तकीय ज्ञान

3. * वैकल्पिक विषय

4. * ध्यान न देना

Question Number : 197 Question Id : 54592740397 Question Type : MCQ Option Shuffling : Yes

Correct Marks : 1 Wrong Marks : 0.25

अनुशासन के माध्यम से विद्यार्थी कौन सी कला सीख सकता है?

Options :

1. * अनुशासन की

2. * उद्वेगता की

3. * मानसिक प्रवृत्ति की

4. ✓ मन पर नियंत्रण की

Question Number : 198 Question Id : 54592740398 Question Type : MCQ Option Shuffling : Yes

Correct Marks : 1 Wrong Marks : 0.25

आज विद्यार्थियों को क्या बताने की आवश्यकता है?

Options :

1. * आचार-विचार

2. * क्या अनिवार्य विषय हो सकता है

3. * कैसे व्यवसाय वे देख सकते हैं

4. ✓ कैसे अनुशासन भविष्य के लिए आवश्यक है

Question Number : 199 Question Id : 54592740399 Question Type : MCQ Option Shuffling : Yes

Correct Marks : 1 Wrong Marks : 0.25

इनमें से कौन - सा उद्वेगता का पर्यायवाची शब्द नहीं है?

Options :

1. * दुष्टता

2. ✓ अनुशासित

3. * दुस्साहस

4. * अकखड़पन

Question Number : 200 Question Id : 54592740400 Question Type : MCQ Option Shuffling : Yes
Correct Marks : 1 Wrong Marks : 0.25

इस अनुच्छेद का कोई उपयुक्त शीर्षक-

Options :

1. * विद्यार्थी जीवन
2. * विद्यालयी शिक्षा
3. ✓ अनुशासन का महत्त्व
4. * जीवन का नियंत्रण