

Education Consultant India Ltd.

Notations :

1.Options shown in **green** color and with ✓ icon are correct.

2.Options shown in **red** color and with ✖ icon are incorrect.

Question Paper Name:	Grade IV DASS 20th September 2019 Shift 1
Subject Name:	Grade IV DASS
Creation Date:	2019-09-20 12:37:56
Duration:	120
Total Marks:	200
Display Marks:	Yes
Share Answer Key With Delivery Engine:	No
Actual Answer Key:	Yes
Calculator:	None
Magnifying Glass Required?:	No
Ruler Required?:	No
Eraser Required?:	No
Scratch Pad Required?:	No
Rough Sketch/Notepad Required?:	No
Protractor Required?:	No
Show Watermark on Console?:	Yes
Highlighter:	No
Auto Save on Console?:	No

Mental Ability1

Group Number :	1
Group Id :	5459272081
Group Maximum Duration :	0
Group Minimum Duration :	0
Show Attended Group? :	No
Edit Attended Group? :	No
Break time:	0
Group Marks:	20
Is this Group for Examiner?:	No
Revisit allowed for group Instructions? :	Yes
Maximum Instruction Time:	0
Minimum Instruction Time:	0

Mental Ability1

Section Id :	5459272081
Section Number :	1

Section type :	Online
Mandatory or Optional:	Mandatory
Number of Questions:	20
Number of Questions to be attempted:	20
Section Marks:	20

Sub-Section Number:	1
Sub-Section Id:	5459272497
Question Shuffling Allowed :	Yes

Question Number : 1 Question Id : 54592742017 Question Type : MCQ Option Shuffling : Yes
Correct Marks : 1 Wrong Marks : 0.25

Find the missing term in the following series:

5P8, ____, 19X22, 26B29

Options :

1. ✓ 12T15
2. ✗ 12S15
3. ✗ 10T12
4. ✗ 12S16

Question Number : 1 Question Id : 54592742017 Question Type : MCQ Option Shuffling : Yes
Correct Marks : 1 Wrong Marks : 0.25

निम्नलिखित अक्षर श्रृंखला में लुप्त पद ज्ञात करें:

5P8, ____, 19X22, 26B29

Options :

1. ✓ 12T15
2. ✗ 12S15
3. ✗ 10T12
4. ✗ 12S16

Question Number : 2 Question Id : 54592742018 Question Type : MCQ Option Shuffling : Yes
Correct Marks : 1 Wrong Marks : 0.25

Find the wrong term in the following series:

OranGe, IndiGo, blAcK, yElloW, GreEn

Options :

1. ✖ yElloW
2. ✖ IndiGo
3. ✖ blAcK
4. ✔ GreEn

Question Number : 2 Question Id : 54592742018 Question Type : MCQ Option Shuffling : Yes

Correct Marks : 1 Wrong Marks : 0.25

निम्नलिखित श्रृंखला में गलत पद ज्ञात करें:

OranGe, IndiGo, blAcK, yElloW, GreEn

Options :

1. ✖ yElloW
2. ✖ IndiGo
3. ✖ blAcK
4. ✔ GreEn

Question Number : 3 Question Id : 54592742019 Question Type : MCQ Option Shuffling : Yes

Correct Marks : 1 Wrong Marks : 0.25

Arrange the given words in the sequence in which they occur in the dictionary.

1. Slackened
2. Slaughter
3. Slandered
4. Slamming
5. Slavering

Options :

1. ✖ 1,3,2,5,4
2. ✖ 1,4,2,3,5
3. ✖ 1,4,5,2,3
4. ✔ 1,4,3,2,5

Question Number : 3 Question Id : 54592742019 Question Type : MCQ Option Shuffling : Yes
Correct Marks : 1 Wrong Marks : 0.25

निम्नलिखित शब्दों को उस क्रम में व्यवस्थित करें जैसे वे शब्दकोश में होते हैं।

1. Slackened
2. Slaughter
3. Slandered
4. Slamming
5. Slavering

Options :

1. ✖ 1,3,2,5,4
2. ✖ 1,4,2,3,5
3. ✖ 1,4,5,2,3
4. ✔ 1,4,3,2,5

Question Number : 4 Question Id : 54592742020 Question Type : MCQ Option Shuffling : Yes
Correct Marks : 1 Wrong Marks : 0.25

Out of the given options, three are similar in a certain manner. However, one option is NOT like the other three. Select the option which is different from the rest.

Options :

1. ✔ EGK

2. * WUS

3. * GEC

4. * RPN

Question Number : 4 Question Id : 54592742020 Question Type : MCQ Option Shuffling : Yes
Correct Marks : 1 Wrong Marks : 0.25

दिए गए विकल्पों में से, तीन एक निश्चित तरीके से समान हैं।
हालाँकि, एक विकल्प अन्य तीन की तरह नहीं है। उस विकल्प का
चयन करें जो बाकी से अलग है।

Options :

1. ✓ EGK

2. * WUS

3. * GEC

4. * RPN

Question Number : 5 Question Id : 54592742021 Question Type : MCQ Option Shuffling : Yes
Correct Marks : 1 Wrong Marks : 0.25

In the given options 3 pair of words are similarly related and
one pair is differently related. Find the pair which is
differently related.

Options :

1. * Cars : Garage

2. * Cows : Shed

3. ✓ Horse : Foal

4. * Dog : Kennel

Question Number : 5 Question Id : 54592742021 Question Type : MCQ Option Shuffling : Yes
Correct Marks : 1 Wrong Marks : 0.25

दिए गए विकल्पों में 3 शब्दों के जोड़े एकसमान संबंधित हैं और एक जोड़ी अलग तरह से संबंधित है। उस जोड़ी को ज्ञात करें जो अलग तरह से संबंधित है।

Options :

1. ✖ कार : गेराज
2. ✖ गाय : छप्पर
3. ✔ घोड़ा : घोड़े का बच्चा
4. ✖ कुत्ते : कुत्ता-घर

Question Number : 6 Question Id : 54592742022 Question Type : MCQ Option Shuffling : Yes
Correct Marks : 1 Wrong Marks : 0.25

In the given options 3 pair of letters are similarly related and one pair is differently related. Find the pair which is differently related.

Options :

1. ✖ BHM : FLQ
2. ✔ DMQ : IRV
3. ✖ RWG : VAK
4. ✖ KTU : OXY

Question Number : 6 Question Id : 54592742022 Question Type : MCQ Option Shuffling : Yes
Correct Marks : 1 Wrong Marks : 0.25

दिए गए विकल्पों में 3 अक्षरों के जोड़े एकसमान संबंधित हैं और एक जोड़ी अलग तरह से संबंधित है। उस जोड़ी को ज्ञात करें जो अलग तरह से संबंधित है।

Options :

1. ✖ BHM : FLQ
2. ✔ DMQ : IRV

3. ✖ RWG : VAK

4. ✖ KTU : OXY

Question Number : 7 Question Id : 54592742023 Question Type : MCQ Option Shuffling : Yes

Correct Marks : 1 Wrong Marks : 0.25

Select the option that is related to the third term on the same basis as the second term is related to the first term.

BFM : YCJ :: PTX : ?

Options :

1. ✖ NSO

2. ✔ MQU

3. ✖ MRO

4. ✖ NRQ

Question Number : 7 Question Id : 54592742023 Question Type : MCQ Option Shuffling : Yes

Correct Marks : 1 Wrong Marks : 0.25

उस विकल्प का चयन करें जो तीसरे पद से उसी प्रकार से संबंधित है जिस प्रकार से पहला पद दूसरे पद से संबंधित है।

BFM : YCJ :: PTX : ?

Options :

1. ✖ NSO

2. ✔ MQU

3. ✖ MRO

4. ✖ NRQ

Question Number : 8 Question Id : 54592742024 Question Type : MCQ Option Shuffling : Yes

Correct Marks : 1 Wrong Marks : 0.25

Select the pair that is related on the same basis to the pair given in the question.

YNF : APH :: ?

Options :

1. ✓ LEV : NGX
2. ✗ VBF : YEI
3. ✗ GKN : DHK
4. ✗ KDU : MGW

Question Number : 8 Question Id : 54592742024 Question Type : MCQ Option Shuffling : Yes
Correct Marks : 1 Wrong Marks : 0.25

उस जोड़ी का चयन करें जो उसी आधार पर संबंधित हों, जिस आधार पर सवाल में दी गई जोड़ी संबंधित हैं।

YNF : APH :: ?

Options :

1. ✓ LEV : NGX
2. ✗ VBF : YEI
3. ✗ GKN : DHK
4. ✗ KDU : MGW

Question Number : 9 Question Id : 54592742025 Question Type : MCQ Option Shuffling : Yes
Correct Marks : 1 Wrong Marks : 0.25

Select the group of letters that is related on the same basis to the group of letters given in the question.

IMS : HNR : GOQ :: ?

Options :

1. ✓ KTZ : JUY : IVX

2. * KMZ : JUY : MZN

3. * KSA : SML : DNH

4. * KSA : LMS : IVX

Question Number : 9 Question Id : 54592742025 Question Type : MCQ Option Shuffling : Yes

Correct Marks : 1 Wrong Marks : 0.25

उस अक्षरों के समूह का चयन करें जो उसी आधार पर संबंधित हों, जिस आधार पर सवाल में दिए गए अक्षरों के समूह संबंधित हैं।

IMS : HNR : GOQ :: ?

Options :

1. ✓ KTZ : JUY : IVX

2. * KMZ : JUY : MZN

3. * KSA : SML : DNH

4. * KSA : LMS : IVX

Question Number : 10 Question Id : 54592742026 Question Type : MCQ Option Shuffling : Yes

Correct Marks : 1 Wrong Marks : 0.25

If a cupboard is called almirah, almirah is called chair, chair is called table, table is called clock, clock is called mirror, then where does a person sit?

Options :

1. * chair

2. ✓ table

3. * clock

4. * mirror

Question Number : 10 Question Id : 54592742026 Question Type : MCQ Option Shuffling : Yes

Correct Marks : 1 Wrong Marks : 0.25

यदि एक कबर्ड को अलमीरा कहा जाए, अलमीरा को कुर्सी कहा जाए, कुर्सी को मेज कहा जाए, मेज को घड़ी कहा जाए, घड़ी को दर्पण कहा जाए, तो फिर एक व्यक्ति बैठता कहाँ है?

Options :

1. * कुर्सी
2. ✓ मेज
3. * घड़ी
4. * दर्पण

Question Number : 11 Question Id : 54592742027 Question Type : MCQ Option Shuffling : Yes

Correct Marks : 1 Wrong Marks : 0.25

In a certain code language,

'score the maximum marks' is coded as 'pin chi gi mi'

'marks are less than' is coded as 'ti hi cim pin'

'score the highest marks' is coded as 'gi chi shi pin'

'less than you' is coded as 'hi cim vi'

What is the code for 'highest' ?

Options :

1. * gi
2. * chi
3. ✓ shi
4. * pin

Question Number : 11 Question Id : 54592742027 Question Type : MCQ Option Shuffling : Yes

Correct Marks : 1 Wrong Marks : 0.25

एक निश्चित कोड भाषा में,

'score the maximum marks' का कोड है 'pin chi gi mi'

'marks are less than' का कोड है 'ti hi cim pin'

'score the highest marks' का कोड है 'gi chi shi pin'

less than you का कोड है hi cim vi

'highest' का कोड क्या है?

Options :

1. ✖ gi
2. ✖ chi
3. ✔ shi
4. ✖ pin

Question Number : 12 Question Id : 54592742028 Question Type : MCQ Option Shuffling : Yes

Correct Marks : 1 Wrong Marks : 0.25

If CREAM is coded as FUHDP, then what is the code for STUPEFY?

Options :

1. ✖ VWXSJKC
2. ✖ VYXSGJC
3. ✖ VYXWSJID
4. ✔ VWXSHIB

Question Number : 12 Question Id : 54592742028 Question Type : MCQ Option Shuffling : Yes

Correct Marks : 1 Wrong Marks : 0.25

यदि CREAM को FUHDP के रूप में कोडित किया जाता है, तो STUPEFY का कोड क्या है?

Options :

1. ✖ VWXSJKC

2. ✖ VYXSGJC

3. ✖ VYXWSJID

4. ✔ VWXSHIB

Question Number : 13 Question Id : 54592742029 Question Type : MCQ Option Shuffling : Yes
Correct Marks : 1 Wrong Marks : 0.25

Six friends — Raunak, Shibir, Mohit, Neha, Kanika and Tony are sitting around a circular table such that each person is sitting exactly opposite another person in the group, thus forming 3 pairs of friends sitting exactly opposite each other. Raunak is sitting to Tony's immediate right. Kanika is sitting to Neha's immediate left. Mohit and Tony do not sit next to each other. Neha and Tony do not sit next to each other. There is exactly one person sitting between Kanika and Raunak.

Who among the following do NOT make a pair of friends sitting exactly opposite each other?

Options :

1. ✖ Mohit-Shibir

2. ✖ Raunak-Neha

3. ✔ Kanika-Shibir

4. ✖ Kanika-Tony

Question Number : 13 Question Id : 54592742029 Question Type : MCQ Option Shuffling : Yes
Correct Marks : 1 Wrong Marks : 0.25

छह दोस्त - रौनक, शिबिर, मोहित, नेहा, कनिका और टोनी एक गोल मेज के चारों ओर बैठे हैं। इनमें से प्रत्येक व्यक्ति समूह के किसी अन्य व्यक्ति के ठीक विपरीत बैठा है, इस प्रकार 3 जोड़े दोस्तों के एक दूसरे के बिल्कुल विपरीत बैठे हैं। रौनक, टोनी के ठीक दाईं ओर बैठा है। कनिका, नेहा की ठीक बाईं ओर बैठी है। मोहित और टोनी एक दूसरे के बगल में नहीं बैठे हैं। नेहा और टोनी एक दूसरे के बगल में नहीं बैठे हैं। कनिका और रौनक के बीच ठीक एक व्यक्ति बैठा है।

निम्नलिखित में से कौन एक दूसरे के विपरीत बैठे दोस्तों की जोड़ी नहीं बनाते हैं?

Options :

1. * मोहित-शिबिर
2. * रौनक - नेहा
3. ✓ कनिका- शिबिर
4. * कनिका- टोनी

Question Number : 14 Question Id : 54592742030 Question Type : MCQ Option Shuffling : Yes
Correct Marks : 1 Wrong Marks : 0.25

In the given options 3 pair of words are similarly related and one pair is differently related. Find the pair which is differently related.

Options :

1. * Birds - Ornithology
2. ✓ Bees - Etymology
3. * Insects - Entomology
4. * Reptiles - Herpetologist

Question Number : 14 Question Id : 54592742030 Question Type : MCQ Option Shuffling : Yes

Correct Marks : 1 Wrong Marks : 0.25

दिए गए विकल्पों में शब्दों की 3 जोड़ी समान रूप से सम्बंधित हैं, और एक जोड़ी अलग तरह से संबंधित है। उस जोड़ी को ज्ञात करें जो अलग तरह से संबंधित है।

Options :

1. * पक्षी-पक्षीविज्ञान
2. ✓ मधुमक्खियाँ - व्युत्पत्तिशास्त्र
3. * कीट - कीट विज्ञान
4. * सरीसृप - सरीसृप विज्ञानवेत्ता

Question Number : 15 Question Id : 54592742031 Question Type : MCQ Option Shuffling : Yes

Correct Marks : 1 Wrong Marks : 0.25

Select the option that arranges the words given below in the most appropriate and meaningful sequence.

1. Adolescent
2. Toddler
3. Infant
4. Elderly
5. Youth

Options :

1. ✓ 3-2-1-5-4
2. * 5-4-1-2-3
3. * 2-3-1-5-4
4. * 3-1-2-5-4

Question Number : 15 Question Id : 54592742031 Question Type : MCQ Option Shuffling : Yes

Correct Marks : 1 Wrong Marks : 0.25

नीचे दिए गए शब्दों को सबसे उपयुक्त और सार्थक अनुक्रम में व्यवस्थित करने वाले विकल्प का चयन करें।

1. Adolescent
2. Toddler
3. Infant
4. Elderly
5. Youth

Options :

1. ✓ 3-2-1-5-4
2. ✗ 5-4-1-2-3
3. ✗ 2-3-1-5-4
4. ✗ 3-1-2-5-4

Question Number : 16 Question Id : 54592742032 Question Type : MCQ Option Shuffling : Yes
Correct Marks : 1 Wrong Marks : 0.25

Analyse the given information and answer the question that follows.

The criteria for selecting a Software Developer have been given as under:

The candidate must:

1. Be a graduate in Science or Engineering with at least 60% marks.
2. Have more than 1 year of industry experience in software development
3. Be between 18 and 27 years old on the date of application

The following exceptions apply:

- A. If a candidate meets all other criteria except 2 above, the candidate will be referred to the Programme Manager.
- B. A candidate whose age is more than 27 years but less than 32 years will be referred to the Recruiting Manager.

Senthil Kumar is a university topper in Bachelor in Computer Science with 91% marks. He has worked with SynLabs firm as a software developer for 21 months. He is 25 years old.

What decision should be taken about this candidate?

Options :

1. ✓ The candidate should be selected.
2. ✖ The candidate should be rejected.
3. ✖ The candidate should be referred to the Programme Manager.
4. ✖ The candidate should be referred to the Recruiting Manager.

दी गई जानकारी का विश्लेषण करें और उस प्रश्न का उत्तर दें जो निम्न प्रकार है।

एक सॉफ्टवेयर डेवलपर के चयन के मानदंड निम्नानुसार दिए गए हैं:

उम्मीदवार को चाहिए:

1. कम से कम 60% अंकों के साथ विज्ञान या इंजीनियरिंग में स्नातक हो।
2. सॉफ्टवेयर डेवलपमेंट में उद्योग का 1 वर्ष से अधिक का अनुभव हो।
3. आवेदन की तिथि 18 से 27 वर्ष के बीच हो।

निम्नलिखित अपवाद लागू होते हैं:

- A. यदि कोई उम्मीदवार उपरोक्त 2 को छोड़कर अन्य सभी मानदंडों को पूरा करता है, तो उम्मीदवार को प्रोग्राम मैनेजर के पास भेजा जाएगा।
- B. एक उम्मीदवार जिसकी आयु 27 वर्ष से अधिक है, लेकिन 32 वर्ष से कम है, को भर्ती प्रबंधक के पास भेजा जाएगा।

सैथिल कुमार 91% अंकों के साथ बैचलर इन कंप्यूटर साइंस में यूनिवर्सिटी टॉपर हैं। उसने SynLabs फर्म के साथ सॉफ्टवेयर डेवलपर के रूप में 21 महीने तक काम किया है। उसकी उम्र 25 वर्ष है। इस उम्मीदवार के बारे में क्या निर्णय लिया जाना चाहिए?

Options :

1. ✓ उम्मीदवार का चयन होना चाहिए।
2. * उम्मीदवार को खारिज कर दिया जाना चाहिए।
3. * उम्मीदवार को प्रोग्राम मैनेजर के पास भेजा जाना चाहिए।

4. * उम्मीदवार को भर्ती प्रबंधक के पास भेजा जाना चाहिए।

Question Number : 17 Question Id : 54592742033 Question Type : MCQ Option Shuffling : Yes
Correct Marks : 1 Wrong Marks : 0.25

Deepak introduced a girl and said, "She is my mother's only son's daughter". How is Deepak related to the girl?

Options :

1. * Uncle
2. * Brother
3. ✓ Father
4. * Cousin

Question Number : 17 Question Id : 54592742033 Question Type : MCQ Option Shuffling : Yes
Correct Marks : 1 Wrong Marks : 0.25

दीपक ने एक लड़की का परिचय कराया और कहा, "वह मेरी माता की इकलौती बेटी की बेटी है"। दीपक लड़की से कैसे संबंधित है?

Options :

1. * चाचा/मामा
2. * भाई
3. ✓ पिता
4. * चचेरा/ममेरा

Question Number : 18 Question Id : 54592742034 Question Type : MCQ Option Shuffling : Yes
Correct Marks : 1 Wrong Marks : 0.25

In this question, a statement has been given, followed by two assumptions numbered I and II. Analyse the two assumptions together and determine which of them is/are implicit in the statement.

Statements:

For your child's bright future, it is advisable to send your child to an expensive private school than to a free government school.

Assumptions:

- I. Private schools have better facilities and teachers that can make your child's future bright.
- II. Government schools do not have facilities and teachers good enough to bring out the best in your child.

Options :

- 1. ✖ Only assumption I is implicit.
- 2. ✖ Only assumption II is implicit.
- 3. ✖ Neither assumption I nor assumption II is implicit.
- 4. ✔ Both the assumptions are implicit.

Question Number : 18 Question Id : 54592742034 Question Type : MCQ Option Shuffling : Yes

Correct Marks : 1 Wrong Marks : 0.25

इस प्रश्न में, एक कथन दिया गया है, जिसके बाद I और II की दो धारणाएँ हैं। एक साथ दोनों धारणाओं का विश्लेषण करें और निर्धारित करें कि उनमें से कौन सा/से कथन में निहित है।

कथन:

आपके बच्चे के उज्ज्वल भविष्य के लिए, आपके बच्चे को एक मुफ्त सरकारी स्कूल की तुलना में एक महंगे निजी स्कूल में भेजना उचित है।

धारणाएँ:

- I. निजी स्कूलों में बेहतर सुविधाएं और शिक्षक हैं जो आपके बच्चे के भविष्य को उज्ज्वल बना सकते हैं।
- II. सरकारी स्कूलों में आपके बच्चे में सर्वश्रेष्ठता लाने के लिए सुविधाएं और शिक्षक पर्याप्त नहीं हैं।

Options :

1. ✖ केवल धारणा I निहित है।
2. ✖ केवल धारणा II निहित है।
3. ✖ न तो धारणा I और न ही धारणा II निहित है।
4. ✔ दोनों धारणाएं निहित हैं।

Question Number : 19 Question Id : 54592742035 Question Type : MCQ Option Shuffling : Yes
Correct Marks : 1 Wrong Marks : 0.25

In this question, two statements have been given labelled as Assertion (A) and Reason (R). Analyse both the statements and determine whether they are correct and whether the reason correctly explains the assertion.

Assertion (A): Mawsynram has off and on hailed as the wettest place in the world.

Reason (R): The women in Mawsynram make rain covers known as “knups to create a rain shield to keep rain off.

Options :

1. * Both A and R are true and R is the correct explanation of A.
2. ✓ Both A and R are true but R is not the correct explanation of A.
3. * A is true but R is false.
4. * A is false but R is true.

Question Number : 19 Question Id : 54592742035 Question Type : MCQ Option Shuffling : Yes

Correct Marks : 1 Wrong Marks : 0.25

इस प्रश्न में, दो कथनों को अभिकथन (A) और कारण (R) के रूप में लेबल दिया गया है। दोनों कथनों का विश्लेषण करें और निर्धारित करें कि क्या वे सही हैं और क्या कारण से सही है ?

अभिकथन (A): मावसिनराम प्रायः दुनिया में सबसे गिनी जगह मानी जाती है।

कारण (R): मावसिनराम की महिलाएं बारिश से बचने के लिए रेन कवर बनाती हैं, जिसे कनप्स कहा जाता है।

Options :

1. * A और R दोनों सत्य हैं और R, A की सत्य व्याख्या है।

2. ✓ A और R दोनों सत्य हैं लेकिन R, A की सत्य व्याख्या नहीं है।

3. ✗ A सत्य है लेकिन R असत्य है।

4. ✗ A असत्य है लेकिन R सत्य है।

Question Number : 20 Question Id : 54592742036 Question Type : MCQ Option Shuffling : Yes
Correct Marks : 1 Wrong Marks : 0.25

Complete the following number series:

80, 63, 48, 35, _____

Options :

1. ✓ 24

2. ✗ 16

3. ✗ 28

4. ✗ 18

Question Number : 20 Question Id : 54592742036 Question Type : MCQ Option Shuffling : Yes
Correct Marks : 1 Wrong Marks : 0.25

निम्नलिखित संख्या श्रृंखला को पूरा करें:

80, 63, 48, 35, _____

Options :

1. ✓ 24

2. ✗ 16

3. ✗ 28

4. ✗ 18

Mental Ability2

Group Number :
Group Id :

2
5459272082

Group Maximum Duration :	0
Group Minimum Duration :	0
Show Attended Group? :	No
Edit Attended Group? :	No
Break time:	0
Group Marks:	20
Is this Group for Examiner?:	No
Revisit allowed for group Instructions? :	Yes
Maximum Instruction Time:	0
Minimum Instruction Time:	0

Mental Ability2

Section Id :	5459272082
Section Number :	1
Section type :	Online
Mandatory or Optional:	Mandatory
Number of Questions:	20
Number of Questions to be attempted:	20
Section Marks:	20

Sub-Section Number:	1
Sub-Section Id:	5459272498
Question Shuffling Allowed :	Yes

Question Number : 21 Question Id : 54592742037 Question Type : MCQ Option Shuffling : Yes
Correct Marks : 1 Wrong Marks : 0.25

Find the wrong number in the following number series:

0.128, 0.64, 3.2, 18, 80

Options :

1. ✖ 0.64

2. ✖ 3.2

3. ✔ 18

4. ✖ 80

Question Number : 21 Question Id : 54592742037 Question Type : MCQ Option Shuffling : Yes
Correct Marks : 1 Wrong Marks : 0.25

निम्नलिखित संख्या श्रृंखला में से गलत संख्या ज्ञात करें:

0.128, 0.64, 3.2, 18, 80

Options :

1. ✖ 0.64

2. ✖ 3.2

3. ✔ 18

4. ✖ 80

Question Number : 22 Question Id : 54592742038 Question Type : MCQ Option Shuffling : Yes

Correct Marks : 1 Wrong Marks : 0.25

Select the option that is related to the third number on the same basis as the second number is related to the first number.

192 : 144 :: 296 : ?

Options :

1. ✖ 242

2. ✔ 222

3. ✖ 298

4. ✖ 256

Question Number : 22 Question Id : 54592742038 Question Type : MCQ Option Shuffling : Yes

Correct Marks : 1 Wrong Marks : 0.25

उस विकल्प का चयन करें जो तीसरी संख्या से उसी प्रकार से संबंधित है जिस प्रकार से पहली संख्या दूसरी संख्या से संबंधित है।

192 : 144 :: 296 : ?

Options :

1. ✖ 242

2. ✔ 222

3. ✖ 298

4. ✖ 256

Question Number : 23 Question Id : 54592742039 Question Type : MCQ Option Shuffling : Yes

Correct Marks : 1 Wrong Marks : 0.25

Find the missing number in the following number series.

117, 105, _____, 78, 63

Options :

1. ✔ 92

2. ✖ 85

3. ✖ 94

4. ✖ 89

Question Number : 23 Question Id : 54592742039 Question Type : MCQ Option Shuffling : Yes

Correct Marks : 1 Wrong Marks : 0.25

निम्नलिखित संख्या श्रृंखला में लुप्त संख्या को ज्ञात करें।

117, 105, _____, 78, 63

Options :

1. ✔ 92

2. ✖ 85

3. ✖ 94

4. ✖ 89

Question Number : 24 Question Id : 54592742040 Question Type : MCQ Option Shuffling : Yes

Correct Marks : 1 Wrong Marks : 0.25

Find the missing number in the following number series.

3456, 576, _____, 48, 24, 4

Options :

1. ✖ 290

2. ✔ 288

3. ✖ 96

4. ✖ 120

Question Number : 24 Question Id : 54592742040 Question Type : MCQ Option Shuffling : Yes

Correct Marks : 1 Wrong Marks : 0.25

निम्नलिखित संख्या श्रृंखला में लुप्त संख्या को ज्ञात करें।

3456, 576, _____, 48, 24, 4

Options :

1. ✖ 290

2. ✔ 288

3. ✖ 96

4. ✖ 120

Question Number : 25 Question Id : 54592742041 Question Type : MCQ Option Shuffling : Yes

Correct Marks : 1 Wrong Marks : 0.25

Find the missing number in the following number series.

10000, 2000, _____, 200, 100, 20

Options :

1. ✔ 1000

2. ✖ 1500

3. ✖ 800

4. ✖ 1200

Question Number : 25 Question Id : 54592742041 Question Type : MCQ Option Shuffling : Yes
Correct Marks : 1 Wrong Marks : 0.25

निम्नलिखित संख्या श्रृंखला में लुप्त संख्या को ज्ञात करें।

10000, 2000, _____, 200, 100, 20

Options :

1. ✔ 1000

2. ✖ 1500

3. ✖ 800

4. ✖ 1200

Question Number : 26 Question Id : 54592742042 Question Type : MCQ Option Shuffling : Yes
Correct Marks : 1 Wrong Marks : 0.25

If $x/r > y/r$ and $r < 0$, then which of the following is true?

Options :

1. ✖ $x > y$

2. ✔ $x < y$

3. ✖ $x - y > 0$

4. ✖ $x + y < 0$

Question Number : 26 Question Id : 54592742042 Question Type : MCQ Option Shuffling : Yes
Correct Marks : 1 Wrong Marks : 0.25

यदि $x/r > y/r$ और $r < 0$ है, तो निम्नलिखित में से कौन सा सत्य है?

Options :

1. ✖ $x > y$

2. ✔ $x < y$

3. ✖ $x - y > 0$

4. ✖ $x + y < 0$

Question Number : 27 Question Id : 54592742043 Question Type : MCQ Option Shuffling : Yes
Correct Marks : 1 Wrong Marks : 0.25

Manish is now three times as old as his niece. Five years back, he was four times as old as his niece. What is the age of his niece?

Options :

1. ✖ 10 years

2. ✔ 15 years

3. ✖ 8 years

4. ✖ 13 years

Question Number : 27 Question Id : 54592742043 Question Type : MCQ Option Shuffling : Yes
Correct Marks : 1 Wrong Marks : 0.25

अभी मनीष अपनी भतीजी से तीन गुना बड़ा है। पांच साल पहले, वह अपनी भतीजी से चार गुना बड़ा था। उसकी भतीजी की उम्र क्या है?

Options :

1. ✖ 10 वर्ष

2. ✔ 15 वर्ष

3. ✖ 8 वर्ष

4. ✖ 13 वर्ष

Question Number : 28 Question Id : 54592742044 Question Type : MCQ Option Shuffling : Yes
Correct Marks : 1 Wrong Marks : 0.25

The product of two numbers is 288 and their LCM is 144, what is their HCF?

Options :

1. ✖ 4

2. ✖ 6

3. ✖ 8

4. ✓ 2

Question Number : 28 Question Id : 54592742044 Question Type : MCQ Option Shuffling : Yes
Correct Marks : 1 Wrong Marks : 0.25

दो संख्याओं का उत्पाद 288 है और उनका लघुत्तम समापवर्तक 144 है, तो उनका महत्तम समापवर्तक क्या होगा ?

Options :

1. ✗ 4

2. ✗ 6

3. ✗ 8

4. ✓ 2

Question Number : 29 Question Id : 54592742045 Question Type : MCQ Option Shuffling : Yes
Correct Marks : 1 Wrong Marks : 0.25

Which two numbers should be interchanged to make the below equation mathematically correct?

$$23 + 105 \times 6 \div 3 - 62 = 249$$

Options :

1. ✗ 6, 62

2. ✗ 105, 62

3. ✗ 6, 3

4. ✓ 23, 62

Question Number : 29 Question Id : 54592742045 Question Type : MCQ Option Shuffling : Yes
Correct Marks : 1 Wrong Marks : 0.25

नीचे दिए गए समीकरण को गणितीय रूप से सही बनाने के लिए किन दो संख्याओं को परस्पर स्थानांतरित किया जाना चाहिए?

$$23 + 105 \times 6 \div 3 - 62 = 249$$

Options :

1. ✖ 6, 62

2. ✖ 105, 62


3. ✖ 6, 3

4. ✔ 23, 62

Question Number : 30 Question Id : 54592742046 Question Type : MCQ Option Shuffling : Yes

Correct Marks : 1 Wrong Marks : 0.25

The Venn diagram given in the question represents the relationship between the items given in which of the following options?



Options :

1. ✔ authors, men and teachers

2. ✖ butterflies, insects and worms


3. ✖ Mumbai, Ahmedabad and Gujarat

4. ✖ mothers, artists and humans

Question Number : 30 Question Id : 54592742046 Question Type : MCQ Option Shuffling : Yes

Correct Marks : 1 Wrong Marks : 0.25

प्रश्न में दिया गया वेन आरेख निम्नलिखित में से किस विकल्प में दिए गए वस्तुओं के बीच के संबंध को दर्शाता है?



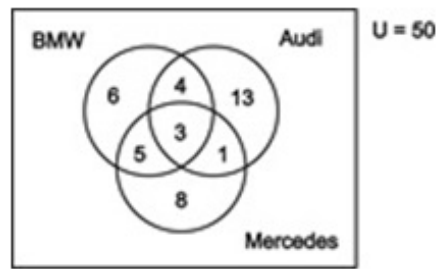
Options :

1. ✔ लेखक, पुरुष और शिक्षक

2. * तितलियाँ, कीड़े और कृमि
3. * मुंबई, अहमदाबाद और गुजरात
4. * माताएँ, कलाकार और मनुष्य

Question Number : 31 Question Id : 54592742047 Question Type : MCQ Option Shuffling : Yes
Correct Marks : 1 Wrong Marks : 0.25

एक निश्चित बिजनेस क्लब के सदस्यों से पूछा गया कि वे किस ब्रांड के कार के मालिक हैं। इस खोज के परिणाम निम्नलिखित वेन आरेख में दिखाए गए हैं। कितने सदस्य इन तीन ब्रांडों में से दो ब्रांड की कारों के मालिक हैं?

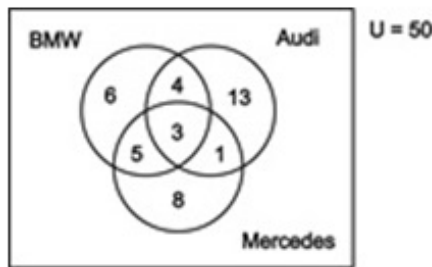


Options :

1. * 10
2. * 3
3. * 17
4. ✓ 13

Question Number : 31 Question Id : 54592742047 Question Type : MCQ Option Shuffling : Yes
Correct Marks : 1 Wrong Marks : 0.25

Members of a certain business club were asked which brand of car they own. The results of this finding is shown in the following Venn diagram. How many members own atleast two cars out of these three brands?



Options :

1. ✖ 10
2. ✖ 3
3. ✖ 17
4. ✔ 13

Question Number : 32 Question Id : 54592742048 Question Type : MCQ Option Shuffling : Yes

Correct Marks : 1 Wrong Marks : 0.25

In this question, two statements are given followed by an inference. Analyse the statements and the inference and determine whether the given inference can be drawn from the statements.

Statements:

- I. A person can either be married or happy.
- II. Vikas is happy.

Inference: Vikas is not married.

Options :

1. ✔ The given inference is definitely true.

2. * The given inference is definitely false.
3. * The given inference could be true or false.
4. * This inference cannot be drawn from the given statements.

Question Number : 32 Question Id : 54592742048 Question Type : MCQ Option Shuffling : Yes
Correct Marks : 1 Wrong Marks : 0.25

इस प्रश्न में, दो कथनों के बाद एक अनुमान लगाया जाता है। कथनों और अनुमानों का विश्लेषण करें और निर्धारित करें कि दिए गए अनुमानों को कथनों से निकाला जा सकता है या नहीं।

कथन:

- I. एक व्यक्ति या तो विवाहित हो सकता है या खुश हो सकता है।
- II. विकास खुश है।

अनुमान: विकास शादीशुदा नहीं है।

Options :

1. ✓ दिया गया अनुमान सत्य है।
2. * दिया गया अनुमान निश्चित रूप से असत्य है।
3. * दिया गया अनुमान सत्य या असत्य हो सकता है।
4. * यह अनुमान दिए गए कथन में लागू नहीं होता

Question Number : 33 Question Id : 54592742049 Question Type : MCQ Option Shuffling : Yes
Correct Marks : 1 Wrong Marks : 0.25

Gaurav walks from his home to office. First, he goes 1 km to the West; then, turns right and goes for 2 km. From there, he turns left and goes for a distance of 2 km. Finally, he turns right and walks another 2 km to reach his office. What is the shortest distance between Gaurav's office and his home?

Options :

1. ✖ 3.5 km
2. ✖ 4.5 km
3. ✔ 5 km
4. ✖ 7 km

Question Number : 33 Question Id : 54592742049 Question Type : MCQ Option Shuffling : Yes

Correct Marks : 1 Wrong Marks : 0.25

गौरव अपने घर से दफ्तर के लिए चलता है। सबसे पहले, वह पश्चिम में 1 km जाता है; फिर, दाएं मुड़ता है और 2 km जाता है। वहाँ से, वह बाएं मुड़ता है और 2 km की दूरी तय करता है। आखिरकार, वह दाएं मुड़ता है और अपने दफ्तर पहुंचने के लिए 2 km चलता है। गौरव के दफ्तर और उसके घर के बीच सबसे कम दूरी कितनी है?

Options :

1. ✖ 3.5 km
2. ✖ 4.5 km
3. ✔ 5 km
4. ✖ 7 km

Question Number : 34 Question Id : 54592742050 Question Type : MCQ Option Shuffling : Yes

Correct Marks : 1 Wrong Marks : 0.25

Which of the following options is the wrong figure in the series?

R	P	P	Q	R	Q	P	P	R	P	P
Q			R			Q		R	Q	
		a		b		c		d		

Options :

1. ✓ A

2. ✗ B

3. ✗ C

4. ✗ D

Question Number : 34 Question Id : 54592742050 Question Type : MCQ Option Shuffling : Yes

Correct Marks : 1 Wrong Marks : 0.25

निम्नलिखित में से कौन सी विकल्प श्रृंखला में गलत आकृति है?

R	P	P	Q	R	Q	P	P	R	P	P
Q			R			Q		R	Q	
		a		b		c		d		

Options :

1. ✓ A

2. ✗ B

3. ✗ C

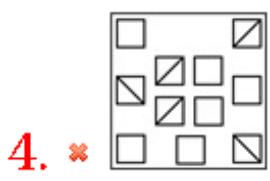
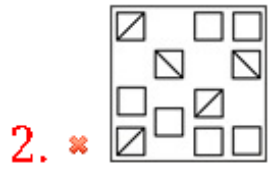
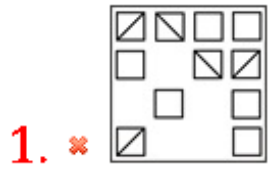
4. ✗ D

Question Number : 35 Question Id : 54592742051 Question Type : MCQ Option Shuffling : Yes

Correct Marks : 1 Wrong Marks : 0.25

Out of the given options, three are similar in a certain manner. However, one option is NOT like the other three. Select the option which is different from the rest.

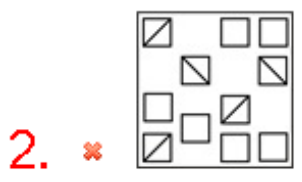
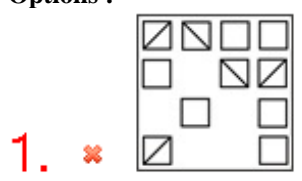
Options :



Question Number : 35 Question Id : 54592742051 Question Type : MCQ Option Shuffling : Yes
 Correct Marks : 1 Wrong Marks : 0.25

दिए गए विकल्पों में से, तीन एक निश्चित तरीके से समान हैं। हालाँकि, एक विकल्प अन्य तीन की तरह नहीं है। उस विकल्प का चयन करें जो अन्य से अलग है।

Options :



3. ✓



4. ✗



Question Number : 36 Question Id : 54592742052 Question Type : MCQ Option Shuffling : Yes

Correct Marks : 1 Wrong Marks : 0.25

Each option has a pair of figures. Three are similar in a certain manner. However, one option is NOT like the other three. Select the option which is different from the rest.

Options :

1. ✗



2. ✗



3. ✗



4. ✓



Question Number : 36 Question Id : 54592742052 Question Type : MCQ Option Shuffling : Yes

Correct Marks : 1 Wrong Marks : 0.25

प्रत्येक विकल्प में आकारों की एक जोड़ी है। तीन एक निश्चित तरीके से समान हैं। हालाँकि, एक विकल्प अन्य तीन की तरह नहीं है। उस विकल्प का चयन करें जो अन्य से अलग है।

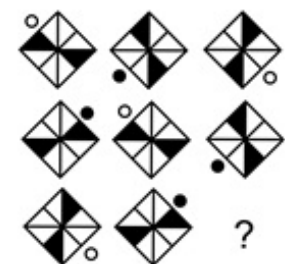
Options :



Question Number : 37 Question Id : 54592742053 Question Type : MCQ Option Shuffling : Yes

Correct Marks : 1 Wrong Marks : 0.25

Which of the following answer figure completes the pattern shown in the question figure?



Options :

1. ✖



2. ✖



3. ✖



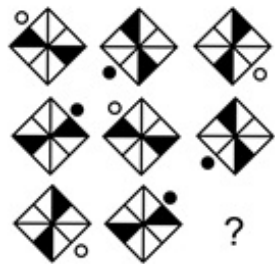
4. ✔



Question Number : 37 Question Id : 54592742053 Question Type : MCQ Option Shuffling : Yes

Correct Marks : 1 Wrong Marks : 0.25

निम्नलिखित में से कौन सी उत्तर आकृति प्रश्न आकृति में दर्शाए गए पैटर्न को पूरा करेगी?



Options :

1. ✖





Question Number : 38 Question Id : 54592742054 Question Type : MCQ Option Shuffling : Yes
Correct Marks : 1 Wrong Marks : 0.25

If a cube is painted blue on three adjacent sides and red on the other three sides and cut into 64 smaller cubes, then how many such smaller cubes will have one side red and one side blue and no paint on any other sides?

Options :

1. ✔ 12

2. ✘ 6

3. ✘ 8

4. ✘ 16

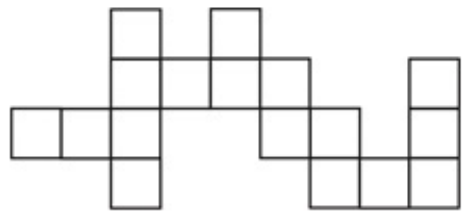
Question Number : 38 Question Id : 54592742054 Question Type : MCQ Option Shuffling : Yes
Correct Marks : 1 Wrong Marks : 0.25

यदि एक घन की तीन आसन्न पक्षों को नीले और अन्य तीन पक्षों को लाल रंग से रंगा जाता है और उसे 64 छोटी घनाकृतियाँ में काट दिया जाता है, तो ऐसी कितनी छोटी घनाकृतियों में एक तरफ लाल और एक तरफ नीला रंग होगा और अन्य किसी भी पक्ष पर कोई रंग नहीं होगा?

- Options :
1. ✓ 12
 2. ✗ 6
 3. ✗ 8
 4. ✗ 16

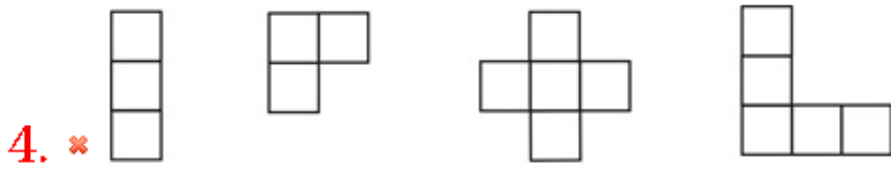
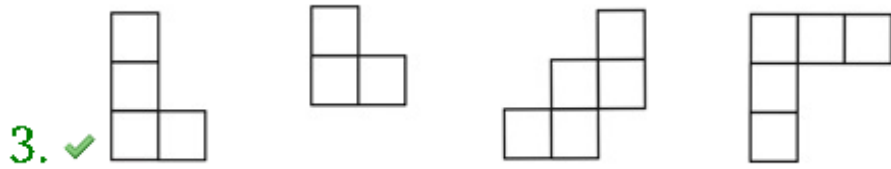
Question Number : 39 Question Id : 54592742055 Question Type : MCQ Option Shuffling : Yes Correct Marks : 1 Wrong Marks : 0.25

Parts given in which option can be joined to create the pattern given in the question figure?



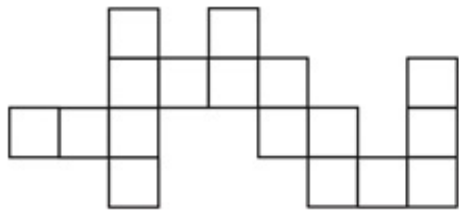
- Options :
1. ✗

2. ✗

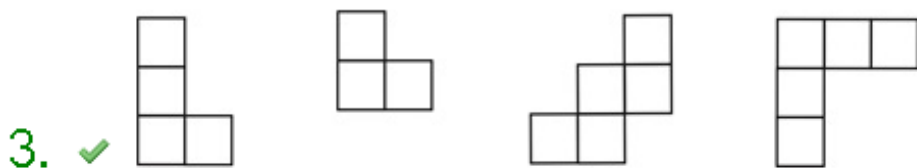
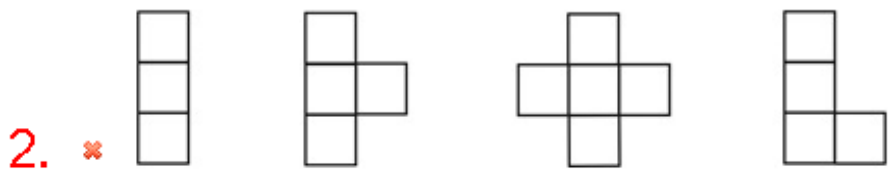
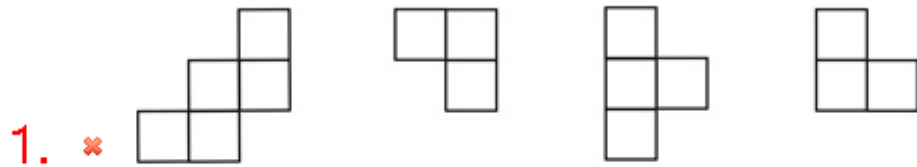


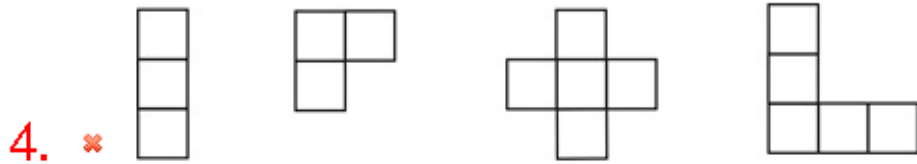
Question Number : 39 Question Id : 54592742055 Question Type : MCQ Option Shuffling : Yes
 Correct Marks : 1 Wrong Marks : 0.25

प्रश्न आकृति में दिए गए पैटर्न को बनाने के लिए कौन से विकल्प के हिस्से जोड़े जा सकते हैं?



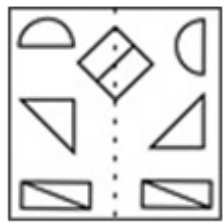
Options :



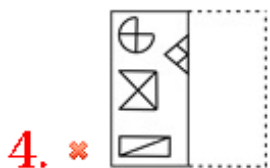
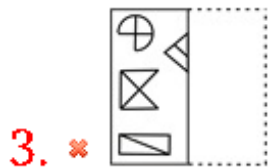
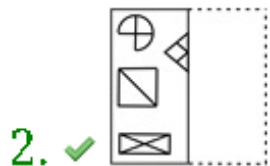
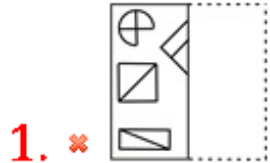


Question Number : 40 Question Id : 54592742056 Question Type : MCQ Option Shuffling : Yes
 Correct Marks : 1 Wrong Marks : 0.25

Find out from amongst the four alternatives as to how the pattern would appear when the transparent sheet is folded at the dotted line.




Options :

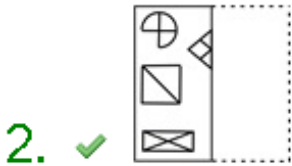


Question Number : 40 Question Id : 54592742056 Question Type : MCQ Option Shuffling : Yes
 Correct Marks : 1 Wrong Marks : 0.25

चार विकल्पों में से यह ज्ञात करें कि बिंदूदार रेखा पर पारदर्शी कागज को मोड़ने पर पैटर्न कैसा दिखाई देगा।



Options :



General Awareness1

Group Number :	3
Group Id :	5459272083
Group Maximum Duration :	0
Group Minimum Duration :	0
Show Attended Group? :	No
Edit Attended Group? :	No
Break time:	0

Group Marks:	20
Is this Group for Examiner?:	No
Revisit allowed for group Instructions? :	Yes
Maximum Instruction Time:	0
Minimum Instruction Time:	0

General Awareness1

Section Id :	5459272083
Section Number :	1
Section type :	Online
Mandatory or Optional:	Mandatory
Number of Questions:	20
Number of Questions to be attempted:	20
Section Marks:	20

Sub-Section Number:	1
Sub-Section Id:	5459272499
Question Shuffling Allowed :	Yes

Question Number : 41 Question Id : 54592742057 Question Type : MCQ Option Shuffling : Yes
Correct Marks : 1 Wrong Marks : 0.25

Which of these musical instruments consists of a set of eighteen porcelain cups of varying sizes?

Options :

1. * Tabla
2. * Ghatam
3. * Mridangam
4. ✓ Jaltarangam

Question Number : 41 Question Id : 54592742057 Question Type : MCQ Option Shuffling : Yes
Correct Marks : 1 Wrong Marks : 0.25

इनमें से किस वाद्ययंत्र में विभिन्न आकारों के अठारह पॉर्सिलेन के कपों का एक सेट होता है?

Options :

1. * तबला
2. * घातम

3. ✖ मृदंग

4. ✔ जलतरंगम

Question Number : 42 Question Id : 54592742058 Question Type : MCQ Option Shuffling : Yes

Correct Marks : 1 Wrong Marks : 0.25

The Kalbelia dance, involving black-coloured costumes of dancers resembling a black snake and with silver embroidery and red laces is performed by a tribes in which of these Indian States?

Options :

1. ✔ Rajasthan

2. ✖ Maharashtra

3. ✖ Jammu and Kashmir

4. ✖ Tamil Nadu

Question Number : 42 Question Id : 54592742058 Question Type : MCQ Option Shuffling : Yes

Correct Marks : 1 Wrong Marks : 0.25

इन भारतीय राज्यों में से किस जनजाति के लोगों द्वारा कालबेलिया नृत्य का प्रदर्शन किया जाता है, जिसमें काले साँपों के जैसे काले रंग के वेशभूषा शामिल होते हैं, और चांदी की कढ़ाई और लाल लेस होती है ?

Options :

1. ✔ राजस्थान

2. ✖ महाराष्ट्र

3. ✖ जम्मू और कश्मीर

4. ✖ तमिल नाडु

Question Number : 43 Question Id : 54592742059 Question Type : MCQ Option Shuffling : Yes

Correct Marks : 1 Wrong Marks : 0.25

Which of these is not a harvest festival celebrated in the months of January?

Options :

1. ✖ Lohri
2. ✔ Shivrathri
3. ✖ Sankranti
4. ✖ Pongal

Question Number : 43 Question Id : 54592742059 Question Type : MCQ Option Shuffling : Yes

Correct Marks : 1 Wrong Marks : 0.25

इनमें से कौन सा फसल उत्सव जनवरी के महीनों में नहीं मनाया जाता है?

Options :

1. ✖ लोहड़ी
2. ✔ शिवरात्रि
3. ✖ संक्रांति
4. ✖ पोंगल

Question Number : 44 Question Id : 54592742060 Question Type : MCQ Option Shuffling : Yes

Correct Marks : 1 Wrong Marks : 0.25

The Stone Chariot depicted of the new Rs.50/- note is located at which of these places?

Options :

1. ✔ Hampi
2. ✖ Red Fort
3. ✖ Gol Gumbaz
4. ✖ Konark Temple

Question Number : 44 Question Id : 54592742060 Question Type : MCQ Option Shuffling : Yes

Correct Marks : 1 Wrong Marks : 0.25

₹. 50/- के नए नोट में दर्शाया गया पत्थर का रथ इनमें से किस स्थान पर स्थित है?

Options :

1. ✓ हम्पी
2. ✗ लाल किला
3. ✗ गोल गुम्बद
4. ✗ कोणार्क मंदिर

Question Number : 45 Question Id : 54592742061 Question Type : MCQ Option Shuffling : Yes

Correct Marks : 1 Wrong Marks : 0.25

Which of these is not a General objective of Fiscal Policy of India?

Options :

1. ✓ Setting up Industries in Public Interest
2. ✗ Maintain and achieve full employment
3. ✗ Stabilize the price level.
4. ✗ Stabilize the growth rate of the economy

Question Number : 45 Question Id : 54592742061 Question Type : MCQ Option Shuffling : Yes

Correct Marks : 1 Wrong Marks : 0.25

इनमें से कौन भारत की राजकोषीय नीति का सामान्य उद्देश्य नहीं है?

Options :

1. ✓ जनहित में उद्योग स्थापित करना
2. ✗ पूर्ण रोजगार को बनाए रखना और प्राप्त करना
3. ✗ मूल्य स्तर को स्थिर करना
4. ✗ अर्थव्यवस्था की विकास दर को स्थिर करना

Question Number : 46 Question Id : 54592742062 Question Type : MCQ Option Shuffling : Yes

Correct Marks : 1 Wrong Marks : 0.25

Which of these is a form of market intervention by the Government of India to insure agricultural producers against any sharp fall in farm prices?

Options :

1. * Maximum Retail Price
2. * Wholesaler Price Index
3. ✓ Minimum Support Price
4. * Procurement Prices

Question Number : 46 Question Id : 54592742062 Question Type : MCQ Option Shuffling : Yes

Correct Marks : 1 Wrong Marks : 0.25

निम्न में से कौन सा भारत सरकार द्वारा किया जाने वाला बाजार हस्तक्षेप का रूप है जो खेत की कीमतों में किसी भी तीव्र गिरावट के सामने कृषि उत्पादकों को सुरक्षित करता है?

Options :

1. * अधिकतम खुदरा मूल्य
2. * थोक व्यापारी मूल्य सूचकांक
3. ✓ न्यूनतम समर्थन मूल्य
4. * खरीद मूल्य

Question Number : 47 Question Id : 54592742063 Question Type : MCQ Option Shuffling : Yes

Correct Marks : 1 Wrong Marks : 0.25

What does 'PPP' stand for in Macroeconomics and GDP?

Options :

1. * Point of Power Parity
2. * Purchasing Power Pulse
3. ✓ Purchasing Power Parity
4. * Power Purchase Price

Question Number : 47 Question Id : 54592742063 Question Type : MCQ Option Shuffling : Yes

Correct Marks : 1 Wrong Marks : 0.25

समष्टि अर्थशास्त्र और GDP में 'PPP' का अर्थ क्या है?

Options :

1. * पॉइंट ऑफ पावर पैरिटी
2. * पर्चेसिंग पावर प्लस
3. ✓ पर्चेसिंग पावर पैरिटी
4. * पावर पर्चेस प्राइज

Question Number : 48 Question Id : 54592742064 Question Type : MCQ Option Shuffling : Yes

Correct Marks : 1 Wrong Marks : 0.25

The wings of an airplane are designed to optimise the speed of the aircraft as per which principle?

Options :

1. * Tesla's Mechanism
2. * Edison's Theories
3. * Newton's Laws
4. ✓ Bernoulli's Principle

Question Number : 48 Question Id : 54592742064 Question Type : MCQ Option Shuffling : Yes

Correct Marks : 1 Wrong Marks : 0.25

हवाई जहाज के पंखों को किस सिद्धांत के अनुसार विमान की गति को अनुकूलित करने के लिए डिज़ाइन किया गया है?

Options :

1. * टेस्ला का तंत्र
2. * एडिसन के सिद्धांत
3. * न्यूटन के नियम
4. ✓ बर्नूली का सिद्धांत

Question Number : 49 Question Id : 54592742065 Question Type : MCQ Option Shuffling : Yes

Correct Marks : 1 Wrong Marks : 0.25

How many poles does a magnet have?

Options :

1. ✖ 1

2. ✔ 2

3. ✖ 3

4. ✖ 4

Question Number : 49 Question Id : 54592742065 Question Type : MCQ Option Shuffling : Yes

Correct Marks : 1 Wrong Marks : 0.25

एक चुंबक में कितने ध्रुव होते हैं?

Options :

1. ✖ 1

2. ✔ 2

3. ✖ 3

4. ✖ 4

Question Number : 50 Question Id : 54592742066 Question Type : MCQ Option Shuffling : Yes

Correct Marks : 1 Wrong Marks : 0.25

Which of these is used to neutralise gastric acids?

Options :

1. ✖ Analgesic

2. ✖ Antibiotic

3. ✔ Antacid

4. ✖ Amino acids

Question Number : 50 Question Id : 54592742066 Question Type : MCQ Option Shuffling : Yes

Correct Marks : 1 Wrong Marks : 0.25

जठराम्ल को बेअसर करने के लिए इनमें से किसका उपयोग किया जाता है?

Options :

1. ✖ वेदनाहर

2. ✖ प्रतिजैविक

3. ✔ प्रत्यम्ल

4. ✖ अमीनो अम्ल

Question Number : 51 Question Id : 54592742067 Question Type : MCQ Option Shuffling : Yes
Correct Marks : 1 Wrong Marks : 0.25

Potato is which part of the plant?

Options :

1. ✖ Root

2. ✔ Stem

3. ✖ Fruit

4. ✖ Seed

Question Number : 51 Question Id : 54592742067 Question Type : MCQ Option Shuffling : Yes
Correct Marks : 1 Wrong Marks : 0.25

आलू पौधे का कौन सा भाग है?

Options :

1. ✖ जड़

2. ✔ तना

3. ✖ फल

4. ✖ बीज

Question Number : 52 Question Id : 54592742068 Question Type : MCQ Option Shuffling : Yes
Correct Marks : 1 Wrong Marks : 0.25

Which of these is not an Omnivore?

Options :

1. ✖ Pig

2. ✖ Crow

3. ✖ Dog

4. ✔ Deer

Question Number : 52 Question Id : 54592742068 Question Type : MCQ Option Shuffling : Yes
Correct Marks : 1 Wrong Marks : 0.25

इनमें से कौन एक सर्वाहारी नहीं है?

Options :

1. * सूअर
2. * कौआ
3. * कुत्ता
4. ✓ हिरण

Question Number : 53 Question Id : 54592742069 Question Type : MCQ Option Shuffling : Yes
Correct Marks : 1 Wrong Marks : 0.25

What is Ozone?

Options :

1. * two molecules of Oxygen
2. * five molecules of Oxygen
3. ✓ three molecules of Oxygen
4. * three molecules of Hydrogen

Question Number : 53 Question Id : 54592742069 Question Type : MCQ Option Shuffling : Yes
Correct Marks : 1 Wrong Marks : 0.25

ओज़ोन क्या है?

Options :

1. * ऑक्सीजन के दो अणु
2. * ऑक्सीजन के पाँच अणु
3. ✓ ऑक्सीजन के तीन अणु
4. * हाइड्रोजन के तीन अणु

Question Number : 54 Question Id : 54592742070 Question Type : MCQ Option Shuffling : Yes
Correct Marks : 1 Wrong Marks : 0.25

Which of these does not come under Economic Impact of inadequate sanitation?

Options :

1. ✖ Health Related impact
2. ✔ Share Market Impact
3. ✖ Domestic Water impact
4. ✖ Tourism impact

Question Number : 54 Question Id : 54592742070 Question Type : MCQ Option Shuffling : Yes
Correct Marks : 1 Wrong Marks : 0.25

इनमें से कौन सा अपर्याप्त स्वच्छता के आर्थिक प्रभाव के तहत नहीं आता है?

Options :

1. ✖ स्वास्थ्य संबंधी प्रभाव
2. ✔ शेयर बाजार का प्रभाव
3. ✖ घरेलू जल प्रभाव
4. ✖ पर्यटन प्रभाव

Question Number : 55 Question Id : 54592742071 Question Type : MCQ Option Shuffling : Yes
Correct Marks : 1 Wrong Marks : 0.25

Which of these is not characteristic of a Mammal?

Options :

1. ✖ Have hair and fur on the body
2. ✖ Have mammary glands
3. ✖ Mammals are warm blooded animals
4. ✔ Mammals are invertebrates

Question Number : 55 Question Id : 54592742071 Question Type : MCQ Option Shuffling : Yes
Correct Marks : 1 Wrong Marks : 0.25

इनमें से कौन सी स्तनधारी की विशेषता नहीं है?

Options :

1. ✖ शरीर पर बाल और ऊर्णाजिन होते हैं
2. ✖ स्तन ग्रंथियां होती हैं

3. ✖ स्तनधारी गर्म रक्त वाले जानवर हैं

4. ✔ स्तनधारी अकशेरुकी प्राणी हैं

Question Number : 56 Question Id : 54592742072 Question Type : MCQ Option Shuffling : Yes

Correct Marks : 1 Wrong Marks : 0.25

The source of the Narmada River is located in which of these states?

Options :

1. ✖ Andhra Pradesh

2. ✖ Uttar Pradesh

3. ✖ Haryana

4. ✔ Madhya Pradesh

Question Number : 56 Question Id : 54592742072 Question Type : MCQ Option Shuffling : Yes

Correct Marks : 1 Wrong Marks : 0.25

नर्मदा नदी का स्रोत इनमें से किस राज्य में स्थित है?

Options :

1. ✖ आंध्र प्रदेश

2. ✖ उत्तर प्रदेश

3. ✖ हरियाणा

4. ✔ मध्य प्रदेश

Question Number : 57 Question Id : 54592742073 Question Type : MCQ Option Shuffling : Yes

Correct Marks : 1 Wrong Marks : 0.25

Mohenjo-daro, Harappa, Thatta, and Taxila are popular tourist attractions along which river?

Options :

1. ✔ Indus

2. ✖ Ganga

3. ✖ Yamuna

4. ✖ Saraswathi

Question Number : 57 Question Id : 54592742073 Question Type : MCQ Option Shuffling : Yes

Correct Marks : 1 Wrong Marks : 0.25

मोहन जोदड़ो, हड़प्पा, ठड्डा और तक्षशिला किस नदी के किनारे लोकप्रिय पर्यटन स्थल हैं?

Options :

1. ✓ सिंधु
2. * गंगा
3. * यमुना
4. * सरस्वती

Question Number : 58 Question Id : 54592742074 Question Type : MCQ Option Shuffling : Yes

Correct Marks : 1 Wrong Marks : 0.25

The border between India and Bangladesh does not pass through which of these states?

Options :

1. * Assam
2. * Meghalaya
3. * Tripura
4. ✓ Orissa

Question Number : 58 Question Id : 54592742074 Question Type : MCQ Option Shuffling : Yes

Correct Marks : 1 Wrong Marks : 0.25

भारत और बांग्लादेश के बीच की सीमा इनमें से किस राज्य से होकर नहीं गुजरती है?

Options :

1. * असम
2. * मेघालय
3. * त्रिपुरा
4. ✓ ओडिशा

Question Number : 59 Question Id : 54592742075 Question Type : MCQ Option Shuffling : Yes

Correct Marks : 1 Wrong Marks : 0.25

India shares its maritime border with how many nations?

Options :

1. ✖ 1

2. ✖ 2

3. ✖ 5

4. ✔ 7

Question Number : 59 Question Id : 54592742075 Question Type : MCQ Option Shuffling : Yes

Correct Marks : 1 Wrong Marks : 0.25

भारत कितने देशों के साथ अपनी समुद्री सीमा साझा करता है?

Options :

1. ✖ 1

2. ✖ 2

3. ✖ 5

4. ✔ 7

Question Number : 60 Question Id : 54592742076 Question Type : MCQ Option Shuffling : Yes

Correct Marks : 1 Wrong Marks : 0.25

Which of these soils is mainly seen in low rainfall area?

Options :

1. ✖ Laterite

2. ✖ Black

3. ✖ Alluvial

4. ✔ Red

Question Number : 60 Question Id : 54592742076 Question Type : MCQ Option Shuffling : Yes

Correct Marks : 1 Wrong Marks : 0.25

निम्न में से कौन सी मृदा मुख्य रूप से कम वर्षा वाले क्षेत्र में देखी जाती है?

Options :

1. ✖ लैटेराइट
2. ✖ काली
3. ✖ एल्यूवियल
4. ✔ लाल

General Awareness2

Group Number :	4
Group Id :	5459272084
Group Maximum Duration :	0
Group Minimum Duration :	0
Show Attended Group? :	No
Edit Attended Group? :	No
Break time:	0
Group Marks:	20
Is this Group for Examiner?:	No
Revisit allowed for group Instructions? :	Yes
Maximum Instruction Time:	0
Minimum Instruction Time:	0

General Awareness2

Section Id :	5459272084
Section Number :	1
Section type :	Online
Mandatory or Optional:	Mandatory
Number of Questions:	20
Number of Questions to be attempted:	20
Section Marks:	20

Sub-Section Number:	1
Sub-Section Id:	5459272500
Question Shuffling Allowed :	Yes

Question Number : 61 Question Id : 54592742077 Question Type : MCQ Option Shuffling : Yes

Correct Marks : 1 Wrong Marks : 0.25

When the leading edge of the incoming tide forms a wave/ waves of water that travel up a river or a narrow bay against the direction of the river or bay's current, it is called?

Options :

1. ✖ Diurnal Tides
2. ✖ Mixed Tide
3. ✖ Semi-diurnal Tide
4. ✔ Tidal Bore

Question Number : 61 Question Id : 54592742077 Question Type : MCQ Option Shuffling : Yes

Correct Marks : 1 Wrong Marks : 0.25

जब आने वाली ज्वार का प्रमुख किनारा पानी की एक लहर/लहरें बनाता है जो नदी या खाड़ी की धारा की दिशा के विपरीत एक नदी या संकीर्ण खाड़ी तक जाती है, तो उसे कहा जाता है?

Options :

1. ✖ डायरनल ज्वार
2. ✖ मिश्रित ज्वार
3. ✖ अर्ध-डायरनल ज्वार
4. ✔ ज्वारीय बोर

Question Number : 62 Question Id : 54592742078 Question Type : MCQ Option Shuffling : Yes

Correct Marks : 1 Wrong Marks : 0.25

The Indus Valley Civilization belonged to which of these ages?

Options :

1. ✔ Bronze Age
2. ✖ Tin Age
3. ✖ Steel Age
4. ✖ Iron Age

Question Number : 62 Question Id : 54592742078 Question Type : MCQ Option Shuffling : Yes

Correct Marks : 1 Wrong Marks : 0.25

सिंधु घाटी सभ्यता किस युग की थी?

Options :

1. ✔ कांस्य युग

2. * टिन युग
3. * इस्पात युग
4. * लोह युग

Question Number : 63 Question Id : 54592742079 Question Type : MCQ Option Shuffling : Yes
Correct Marks : 1 Wrong Marks : 0.25

Which of the cities did not exist during the Indus Valley Civilization?

Options :

1. * Kalibangan
2. ✓ Kalinga
3. * Rupar
4. * Dholavira

Question Number : 63 Question Id : 54592742079 Question Type : MCQ Option Shuffling : Yes
Correct Marks : 1 Wrong Marks : 0.25

सिंधु घाटी सभ्यता के दौरान कौन सा शहर मौजूद नहीं था?

Options :

1. * कालीबंगा
2. ✓ कलिंग
3. * रूपर
4. * धोलावीरा

Question Number : 64 Question Id : 54592742080 Question Type : MCQ Option Shuffling : Yes
Correct Marks : 1 Wrong Marks : 0.25

Bindusara and Devi Dharma were the parents of which of these powerful ancient Kings?

Options :

1. ✓ Ashoka
2. * Siddhartha

3. * Chandragupta Maurya

4. * Rajendra Chola

Question Number : 64 Question Id : 54592742080 Question Type : MCQ Option Shuffling : Yes

Correct Marks : 1 Wrong Marks : 0.25

बिन्दुसार और देवी धर्मा इनमें किस शक्तिशाली प्राचीन राजा के माता-पिता थे?

Options :

1. ✓ अशोका

2. * सिद्धार्थ

3. * चंद्रगुप्त मौर्य

4. * राजेंद्र चोल

Question Number : 65 Question Id : 54592742081 Question Type : MCQ Option Shuffling : Yes

Correct Marks : 1 Wrong Marks : 0.25

Chandragupta Maurya entered into a peace treaty with which one of these Greek generals?

Options :

1. * Alexander the Great

2. ✓ Seleucus I Nikator

3. * Megasthenes

4. * Deimakos

Question Number : 65 Question Id : 54592742081 Question Type : MCQ Option Shuffling : Yes

Correct Marks : 1 Wrong Marks : 0.25

चंद्रगुप्त मौर्य ने इनमें से किस एक ग्रीक जनरल के साथ शांति संधि में प्रवेश किया था?

Options :

1. * अलेक्जेंडर द ग्रेट

2. ✓ सेल्युकस I निकेटर

3. ✖ मेगस्थनीज

4. ✖ डिमाकोस

Question Number : 66 Question Id : 54592742082 Question Type : MCQ Option Shuffling : Yes

Correct Marks : 1 Wrong Marks : 0.25

Who among these was appointed Mayor of Calcutta in the Pre Independence Era?

Options :

1. ✖ Raja Rammohan Roy

2. ✖ Subhash Chandra Bose

3. ✖ Maulana Azad

4. ✔ Chittaranjan Das

Question Number : 66 Question Id : 54592742082 Question Type : MCQ Option Shuffling : Yes

Correct Marks : 1 Wrong Marks : 0.25

इनमें से किसे स्वतंत्रता के पूर्व युग में कलकत्ता का मेयर नियुक्त किया गया था?

Options :

1. ✖ राजा राममोहन राय

2. ✖ सुभाष चंद्र बोस

3. ✖ मौलाना आज़ाद

4. ✔ चित्तरंजन दास

Question Number : 67 Question Id : 54592742083 Question Type : MCQ Option Shuffling : Yes

Correct Marks : 1 Wrong Marks : 0.25

Who was the first woman President of the Indian National Congress?

Options :

1. ✔ Annie Besant

2. ✖ Sarojini Naidu

3. ✖ Begum Hazrat Ali

4. * Kasturba Gandhi

Question Number : 67 Question Id : 54592742083 Question Type : MCQ Option Shuffling : Yes
Correct Marks : 1 Wrong Marks : 0.25

भारतीय राष्ट्रीय कांग्रेस की पहली महिला अध्यक्ष कौन थी?

Options :

1. ✓ एनी बेसेंट
2. * सरोजिनी नायडू
3. * बेगम हजरत अली
4. * कस्तूरबा गांधी

Question Number : 68 Question Id : 54592742084 Question Type : MCQ Option Shuffling : Yes
Correct Marks : 1 Wrong Marks : 0.25

Who among these is a foreign National awarded with the Bharat Ratna?

Options :

1. ✓ Nelson Mandela
2. * Bill Clinton
3. * Shane Warne
4. * Benazir Bhutto

Question Number : 68 Question Id : 54592742084 Question Type : MCQ Option Shuffling : Yes
Correct Marks : 1 Wrong Marks : 0.25

इनमें से भारत रत्न से सम्मानित हुए विदेशी नागरिक कौन हैं?

Options :

1. ✓ नेल्सन मंडेला
2. * बिल क्लिंटन
3. * शेन वॉर्न
4. * बेनज़ीर भुट्टो

Question Number : 69 Question Id : 54592742085 Question Type : MCQ Option Shuffling : Yes
Correct Marks : 1 Wrong Marks : 0.25

Who among these is the first recipient of the Bharat Ratna?

Options :

1. ✓ C.Rajgopalchari
2. ✗ Bidhan Chandra Roy
3. ✗ Dhondo Keshav Karve
4. ✗ Lal Bahadur Shastri

Question Number : 69 Question Id : 54592742085 Question Type : MCQ Option Shuffling : Yes
Correct Marks : 1 Wrong Marks : 0.25

इनमें से कौन भारत रत्न पाने वाले पहले व्यक्ति हैं?

Options :

1. ✓ सी.राजगोपालचारी
2. ✗ बिधान चंद्र रॉय
3. ✗ धोंडो केशव कर्वे
4. ✗ लाल बहादुर शास्त्री

Question Number : 70 Question Id : 54592742086 Question Type : MCQ Option Shuffling : Yes
Correct Marks : 1 Wrong Marks : 0.25

Devi Ahilya Bai Holkar Award is given away by the President every year for _____.

Options :

1. ✗ Best Institution for Research & Development in the field of women empowerment
2. ✓ Best Private Sector organization/ Public sector undertaking in promoting the well-being and welfare of women
3. ✗ Best Urban Local body for providing services and facilities to women
4. ✗ Best State which has appreciably improved Child Sex Ratio (CSR)

Question Number : 70 Question Id : 54592742086 Question Type : MCQ Option Shuffling : Yes

Correct Marks : 1 Wrong Marks : 0.25

हर साल राष्ट्रपति द्वारा _____ के लिए देवी अहिल्या बाई होल्कर पुरस्कार दिया जाता है।

Options :

1. * महिला सशक्तीकरण के क्षेत्र में अनुसंधान और विकास के लिए सर्वश्रेष्ठ संस्थान
2. ✓ महिलाओं की भलाई और कल्याण को बढ़ावा देने के लिए सर्वश्रेष्ठ निजी क्षेत्र संगठन/सार्वजनिक क्षेत्र का उपक्रम
3. * महिलाओं को सेवाएं और सुविधाएं प्रदान करने के लिए सर्वश्रेष्ठ शहरी स्थानीय निकाय
4. * बाल लिंग अनुपात (सीएसआर) को सुधारने के लिए सर्वश्रेष्ठ राज्य

Question Number : 71 Question Id : 54592742087 Question Type : MCQ Option Shuffling : Yes

Correct Marks : 1 Wrong Marks : 0.25

Mata Jijabai Award is given away by the President every year for _____.

Options :

1. * Best Institution for Research & Development in the field of women empowerment
2. * Best Private Sector organization/ Public sector undertaking in promoting the well-being and welfare of women
3. ✓ Best Urban Local body for providing services and facilities to women
4. * Best State which has appreciably improved Child Sex Ratio (CSR)

Question Number : 71 Question Id : 54592742087 Question Type : MCQ Option Shuffling : Yes

Correct Marks : 1 Wrong Marks : 0.25

हर साल राष्ट्रपति द्वारा _____ के लिए माता जीजाबाई पुरस्कार दिया जाता है।

Options :

1. * महिला सशक्तीकरण के क्षेत्र में अनुसंधान और विकास के लिए सर्वश्रेष्ठ संस्थान
2. * महिलाओं की भलाई और कल्याण को बढ़ावा देने के लिए सर्वश्रेष्ठ निजी क्षेत्र संगठन/सार्वजनिक क्षेत्र का उपक्रम
3. ✓ महिलाओं को सेवाएं और सुविधाएं प्रदान करने के लिए सर्वश्रेष्ठ शहरी स्थानीय निकाय
4. * बाल लिंग अनुपात (सीएसआर) को सुधारने के लिए सर्वश्रेष्ठ राज्य

Question Number : 72 Question Id : 54592742088 Question Type : MCQ Option Shuffling : Yes

Correct Marks : 1 Wrong Marks : 0.25

Who among these has won a Nobel Prize for their interpretation of the genetic code and its function in protein synthesis?

Options :

1. * C.V. Raman
2. ✓ Har Gobind Khorana
3. * Subrahmanyan Chandrasekhar
4. * V.S. Naipul

Question Number : 72 Question Id : 54592742088 Question Type : MCQ Option Shuffling : Yes

Correct Marks : 1 Wrong Marks : 0.25

इनमें से किसने अनुवांशिक कूट और प्रोटीन संश्लेषण में इसके कार्य की व्याख्या के लिए नोबेल पुरस्कार जीता है?

Options :

1. * सी. वी. रमन
2. ✓ हरगोविन्द खुराना

3. * सुब्रह्मण्यन् चंद्रशेखर

4. * वी.एस. नायपॉल

Question Number : 73 Question Id : 54592742089 Question Type : MCQ Option Shuffling : Yes

Correct Marks : 1 Wrong Marks : 0.25

Who is regarded as Father of the Indian space program?

Options :

1. * Homi Jehangir Bhabha

2. ✓ Vikram Sarabhai

3. * C.V. Raman

4. * A.P.J. Abdul Kalam

Question Number : 73 Question Id : 54592742089 Question Type : MCQ Option Shuffling : Yes

Correct Marks : 1 Wrong Marks : 0.25

किसे भारतीय अंतरिक्ष कार्यक्रम के जनक के रूप में माना जाता है?

Options :

1. * होमी जहांगीर भाभा

2. ✓ विक्रम साराभाई

3. * सी.वी.रमन

4. * ए.पी.जे.अब्दुल कलाम

Question Number : 74 Question Id : 54592742090 Question Type : MCQ Option Shuffling : Yes

Correct Marks : 1 Wrong Marks : 0.25

The original hand-written copies of the Constitution are kept in _____.

Options :

1. ✓ Library of Parliament House

2. * Vidhan Soudha

3. * National Library, Kolkata

4. * 10,Janpath

Question Number : 74 Question Id : 54592742090 Question Type : MCQ Option Shuffling : Yes
Correct Marks : 1 Wrong Marks : 0.25

संविधान की मूल हस्तलिखित प्रतियां _____ में रखी गई हैं।

Options :

1. ✓ संसद भवन का पुस्तकालय
2. * विधान सौध
3. * नेशनल लाइब्रेरी, कोलकाता
4. * 10, जनपथ

Question Number : 75 Question Id : 54592742091 Question Type : MCQ Option Shuffling : Yes
Correct Marks : 1 Wrong Marks : 0.25

“Untouchability” is abolished and its practice in any form is forbidden is stated in which Article?

Options :

1. * Article 45
2. * Article 5
3. ✓ Article 17
4. * Article 15

Question Number : 75 Question Id : 54592742091 Question Type : MCQ Option Shuffling : Yes
Correct Marks : 1 Wrong Marks : 0.25

किस अनुच्छेद में कहा गया है कि "अस्पृश्यता" को समाप्त कर दिया गया है और किसी भी रूप में इसका अमल निषिद्ध है?

Options :

1. * अनुच्छेद 45
2. * अनुच्छेद 5
3. ✓ अनुच्छेद 17
4. * अनुच्छेद 15

Question Number : 76 Question Id : 54592742092 Question Type : MCQ Option Shuffling : Yes
Correct Marks : 1 Wrong Marks : 0.25

Who among these is not appointed by the President?

Options :

1. ✓ Chief Ministers
2. ✗ State governors
3. ✗ Chief Justice
4. ✗ Supreme Court and High Court Judges

Question Number : 76 Question Id : 54592742092 Question Type : MCQ Option Shuffling : Yes
Correct Marks : 1 Wrong Marks : 0.25

इनमें से कौन राष्ट्रपति द्वारा नियुक्त नहीं किया जाता है?

Options :

1. ✓ मुख्य मंत्री
2. ✗ राज्य के राज्यपाल
3. ✗ मुख्य न्यायाधीश
4. ✗ सर्वोच्च न्यायालय और उच्च न्यायालय के न्यायाधीश

Question Number : 77 Question Id : 54592742093 Question Type : MCQ Option Shuffling : Yes
Correct Marks : 1 Wrong Marks : 0.25

The minimum strength of council of ministers in a state as per Constitution is _____.

Options :

1. ✗ 30
2. ✗ 2
3. ✓ 12
4. ✗ 5

Question Number : 77 Question Id : 54592742093 Question Type : MCQ Option Shuffling : Yes
Correct Marks : 1 Wrong Marks : 0.25

संविधान के अनुसार किसी राज्य में मंत्रिपरिषद की न्यूनतम संख्या _____ है।

Options :

1. ✖ 30
2. ✖ 2
3. ✔ 12
4. ✖ 5

Question Number : 78 Question Id : 54592742094 Question Type : MCQ Option Shuffling : Yes
Correct Marks : 1 Wrong Marks : 0.25

Who became the first Indian to win an individual gold medal at the Olympic Games?

Options :

1. ✔ Abhinav Bindra
2. ✖ Mary Kom
3. ✖ Virendra Sehwag
4. ✖ Leander Paes

Question Number : 78 Question Id : 54592742094 Question Type : MCQ Option Shuffling : Yes
Correct Marks : 1 Wrong Marks : 0.25

ओलंपिक खेलों में व्यक्तिगत स्वर्ण पदक जीतने वाले पहले भारतीय कौन बने?

Options :

1. ✔ अभिनव बिंद्रा
2. ✖ मैरी कॉम
3. ✖ वीरेंद्र सहवाग
4. ✖ लिण्डर पेस

Question Number : 79 Question Id : 54592742095 Question Type : MCQ Option Shuffling : Yes
Correct Marks : 1 Wrong Marks : 0.25

Which of the these sports personality's original name was Cassius Clay?

Options :

1. * Roger Binny
2. * Mike Tyson
3. ✓ Muhammad Ali
4. * Andre Agassi

Question Number : 79 Question Id : 54592742095 Question Type : MCQ Option Shuffling : Yes
Correct Marks : 1 Wrong Marks : 0.25

इनमें से किस खेल के शख्सियत का मूल नाम कैसियस क्ले था?

Options :

1. * रोजर बिन्नी
2. * माइक टायसन
3. ✓ मुहम्मद अली
4. * आन्द्रे अगासी

Question Number : 80 Question Id : 54592742096 Question Type : MCQ Option Shuffling : Yes
Correct Marks : 1 Wrong Marks : 0.25

Who was the first cricketer to score a double century in one day internationals?

Options :

1. * Mithali Raj
2. * Rohit Sharma
3. ✓ Belinda Clark
4. * Sachin Tendulkar

Question Number : 80 Question Id : 54592742096 Question Type : MCQ Option Shuffling : Yes
Correct Marks : 1 Wrong Marks : 0.25

एक दिवसीय अंतरराष्ट्रीय मैचों में दोहरा शतक बनाने वाले पहले क्रिकेटर कौन थे?

Options :

1. * मिताली राज

2. ✖ रोहित शर्मा

3. ✔ बेलिंडा क्लार्क

4. ✖ सचिन तेंदुलकर

Arithmetic Ability1

Group Number :	5
Group Id :	5459272085
Group Maximum Duration :	0
Group Minimum Duration :	0
Show Attended Group? :	No
Edit Attended Group? :	No
Break time:	0
Group Marks:	20
Is this Group for Examiner? :	No
Revisit allowed for group Instructions? :	Yes
Maximum Instruction Time:	0
Minimum Instruction Time:	0

Arithmetic Ability1

Section Id :	5459272085
Section Number :	1
Section type :	Online
Mandatory or Optional:	Mandatory
Number of Questions:	20
Number of Questions to be attempted:	20
Section Marks:	20

Sub-Section Number:	1
Sub-Section Id:	5459272501
Question Shuffling Allowed :	Yes

Question Number : 81 Question Id : 54592742097 Question Type : MCQ Option Shuffling : Yes
Correct Marks : 1 Wrong Marks : 0.25

What is the least number that should be added to 820, so that the sum is completely divisible by 18?

Options :

1. ✔ 8

2. ✖ 4

3. ✖ 6

4. ✖ 12

Question Number : 81 Question Id : 54592742097 Question Type : MCQ Option Shuffling : Yes

Correct Marks : 1 Wrong Marks : 0.25

वह न्यूनतम संख्या बताइए, जिसे यदि 820 में जोड़ा जाए तो योग 18 से पूरी तरह से विभाजित हो जाएगा?

Options :

1. ✔ 8

2. ✖ 4

3. ✖ 6

4. ✖ 12

Question Number : 82 Question Id : 54592742098 Question Type : MCQ Option Shuffling : Yes

Correct Marks : 1 Wrong Marks : 0.25

How many three digit numbers are divisible by 9?

Options :

1. ✖ 111

2. ✔ 100

3. ✖ 101

4. ✖ 110

Question Number : 82 Question Id : 54592742098 Question Type : MCQ Option Shuffling : Yes

Correct Marks : 1 Wrong Marks : 0.25

9 से कितने तीन अंकों की संख्या विभाज्य है?

Options :

1. ✖ 111

2. ✔ 100

3. ✖ 101

4. ✖ 110

Question Number : 83 Question Id : 54592742099 Question Type : MCQ Option Shuffling : Yes

Correct Marks : 1 Wrong Marks : 0.25

There are four prime numbers. The product of the first three numbers are 33263 and the product of the last three numbers are 47027. Find the fourth number.

Options :

1. ✖ 31

2. ✔ 41

3. ✖ 37

4. ✖ 29

Question Number : 83 Question Id : 54592742099 Question Type : MCQ Option Shuffling : Yes

Correct Marks : 1 Wrong Marks : 0.25

चार अभाज्य संख्याएँ हैं। प्रथम तीन संख्याओं का गुणनफल 33263 है और अंतिम तीन संख्याओं का गुणनफल 47027 है। चौथी संख्या ज्ञात करें।

Options :

1. ✖ 31

2. ✔ 41

3. ✖ 37

4. ✖ 29

Question Number : 84 Question Id : 54592742100 Question Type : MCQ Option Shuffling : Yes

Correct Marks : 1 Wrong Marks : 0.25

Find the smallest number which when increased by 8 is divisible 6,9,15,20 and 24?

Options :

1. ✔ 352

2. ✖ 336

3. ✖ 368

4. ✖ 388

Question Number : 84 Question Id : 54592742100 Question Type : MCQ Option Shuffling : Yes
Correct Marks : 1 Wrong Marks : 0.25

सबसे छोटी संख्या ज्ञात करें, जिसे 8 से बढ़ाने पर 6, 9, 15, 20 और 24 से विभाज्य है?

Options :

1. ✔ 352

2. ✖ 336

3. ✖ 368

4. ✖ 388

Question Number : 85 Question Id : 54592742101 Question Type : MCQ Option Shuffling : Yes
Correct Marks : 1 Wrong Marks : 0.25

A vendor has 90 litres of Pepsi, 144 litres of thumbs up and 324 litres of coke in his machine. He wants to pack them in bottles containing the same litres of drink in each bottle. He doesn't want to mix any of the two drinks. What is the least number of bottles required?

Options :

1. ✖ 38

2. ✖ 27

3. ✔ 31

4. ✖ 42

Question Number : 85 Question Id : 54592742101 Question Type : MCQ Option Shuffling : Yes
Correct Marks : 1 Wrong Marks : 0.25

एक विक्रेता के पास 90 लीटर पेप्सी, 144 लीटर थम्स अप और 324 लीटर कोक उसकी मशीन में है। वह उन्हें प्रत्येक समान लीटर की बोतल में पैक करना चाहता है। वह दोनों में से किसी भी पेय को मिलाना नहीं चाहता। उसे कम से कम कितने बोतलों की जरूरत होगी?

Options :

1. ✖ 38

2. ✖ 27

3. ✔ 31

4. ✖ 42

Question Number : 86 Question Id : 54592742102 Question Type : MCQ Option Shuffling : Yes

Correct Marks : 1 Wrong Marks : 0.25

Find the value of: $(0.125 \times 80 + 0.0128 \times 625) - (0.0032 \div 0.0128 \times 8) = ?$

Options :

1. ✖ 8

2. ✖ 25

3. ✖ 5

4. ✔ 16

Question Number : 86 Question Id : 54592742102 Question Type : MCQ Option Shuffling : Yes

Correct Marks : 1 Wrong Marks : 0.25

$(0.125 \times 80 + 0.0128 \times 625) - (0.0032 \div 0.0128 \times 8) = ?$

का मान ज्ञात करें।

Options :

1. ✖ 8

2. ✖ 25

3. ✖ 5

4. ✓ 16

Question Number : 87 Question Id : 54592742103 Question Type : MCQ Option Shuffling : Yes
Correct Marks : 1 Wrong Marks : 0.25

Find the LCM of 32, 67 and 20.

Options :

1. ✗ 5152

2. ✓ 10720

3. ✗ 2208

4. ✗ 4416

Question Number : 87 Question Id : 54592742103 Question Type : MCQ Option Shuffling : Yes
Correct Marks : 1 Wrong Marks : 0.25

32, 67 और 20 का लघुत्तम समापवर्त्य (LCM) ज्ञात कीजिए।

Options :

1. ✗ 5152

2. ✓ 10720

3. ✗ 2208

4. ✗ 4416

Question Number : 88 Question Id : 54592742104 Question Type : MCQ Option Shuffling : Yes
Correct Marks : 1 Wrong Marks : 0.25

Find the value of: $(0.005 + 0.01) \times 2.16 = ?$

Options :

1. ✗ 0.324

2. ✗ 0.0412

3. ✓ 0.0324

4. ✗ 0.412

Question Number : 88 Question Id : 54592742104 Question Type : MCQ Option Shuffling : Yes
Correct Marks : 1 Wrong Marks : 0.25

$(0.005 + 0.01) \times 2.16 = ?$ का मान ज्ञात करें।

Options :

1. ✘ 0.324
2. ✘ 0.0412
3. ✔ 0.0324
4. ✘ 0.412

Question Number : 89 Question Id : 54592742105 Question Type : MCQ Option Shuffling : Yes
Correct Marks : 1 Wrong Marks : 0.25

The sum of two numbers is 72. Their HCF is 12 and LCM is 252. Find the sum of their reciprocals?

Options :

1. ✘ $1/32$
2. ✘ $1/54$
3. ✔ $1/42$
4. ✘ $1/62$

Question Number : 89 Question Id : 54592742105 Question Type : MCQ Option Shuffling : Yes
Correct Marks : 1 Wrong Marks : 0.25

दो संख्याओं का योग 72 है। उनका महत्तम समापवर्तक 12 और लघुत्तम समापवर्तक 252 है। उनके पारस्परिक का योग ज्ञात करें।

Options :

1. ✘ $1/32$
2. ✘ $1/54$
3. ✔ $1/42$
4. ✘ $1/62$

Question Number : 90 Question Id : 54592742106 Question Type : MCQ Option Shuffling : Yes
Correct Marks : 1 Wrong Marks : 0.25

The wheels revolve around common axis. They make 15, 18, 24 and 30 revolutions in a minute respectively. Starting at the same point moving downwards, after what interval of time will they come together in the same position ?

Options :

1. ✖ 30 seconds
2. ✖ 45 seconds
3. ✔ 20 seconds
4. ✖ 60 seconds

Question Number : 90 Question Id : 54592742106 Question Type : MCQ Option Shuffling : Yes

Correct Marks : 1 Wrong Marks : 0.25

दो पहिए एक ही अक्ष पर घूमते हैं। वे एक मिनट में क्रमशः 15, 18, 24 और 30 चक्कर लगाते हैं। एक ही बिंदु पर नीचे की ओर बढ़ते हुए कितने समय के अंतराल के बाद वे एक ही स्थिति में एक साथ आएंगे?

Options :

1. ✖ 30 सेकंड
2. ✖ 45 सेकंड
3. ✔ 20 सेकंड
4. ✖ 60 सेकंड

Question Number : 91 Question Id : 54592742107 Question Type : MCQ Option Shuffling : Yes

Correct Marks : 1 Wrong Marks : 0.25

Giving two successive 35% discount is equal to giving one discount of?

Options :

1. ✔ 57.75%
2. ✖ 59.25%
3. ✖ 62.45%

4. ✖ 46.95%

Question Number : 91 Question Id : 54592742107 Question Type : MCQ Option Shuffling : Yes
Correct Marks : 1 Wrong Marks : 0.25

दो लगातार 35% छूट देना एक छूट देने के बराबर है?

Options :

1. ✔ 57.75%

2. ✖ 59.25%

3. ✖ 62.45%

4. ✖ 46.95%

Question Number : 92 Question Id : 54592742108 Question Type : MCQ Option Shuffling : Yes
Correct Marks : 1 Wrong Marks : 0.25

A shopkeeper marks up his goods by 65% and offers 35% discount. If the cost price of the good is Rs 700, then what is the selling price?

Options :

1. ✖ 725.45

2. ✔ 750.75

3. ✖ 810.25

4. ✖ 880.55

Question Number : 92 Question Id : 54592742108 Question Type : MCQ Option Shuffling : Yes
Correct Marks : 1 Wrong Marks : 0.25

एक दुकानदार अपने वस्तु को 65% तक चिह्नित करता है और 35% छूट प्रदान करता है। यदि वस्तु की लागत मूल्य 700 रुपए है, तो विक्रय मूल्य क्या है?

Options :

1. ✖ 725.45

2. ✔ 750.75

3. ✖ 810.25

4. ✖ 880.55

Question Number : 93 Question Id : 54592742109 Question Type : MCQ Option Shuffling : Yes

Correct Marks : 1 Wrong Marks : 0.25

The average runs of a player is 58 in 10 innings. How many runs must be make in his next innings to increase his average to 63?

Options :

1. ✖ 96

2. ✖ 104

3. ✔ 113

4. ✖ 129

Question Number : 93 Question Id : 54592742109 Question Type : MCQ Option Shuffling : Yes

Correct Marks : 1 Wrong Marks : 0.25

एक खिलाड़ी का औसत रन 10 पारियों में 58 है। अपनी अगली पारी में 63 के औसत को बढ़ाने के लिए कितने रन बनाने चाहिए?

Options :

1. ✖ 96

2. ✖ 104

3. ✔ 113

4. ✖ 129

Question Number : 94 Question Id : 54592742110 Question Type : MCQ Option Shuffling : Yes

Correct Marks : 1 Wrong Marks : 0.25

A candidate received 45% of the valid votes, 25% of the total votes were invalid. If 12000 votes were casted, how many valid votes did the other candidate received?

Options :

1. ✖ 3590

2. ✖ 5600

3. ✖ 6250

4. ✔ 4950

Question Number : 94 Question Id : 54592742110 Question Type : MCQ Option Shuffling : Yes
Correct Marks : 1 Wrong Marks : 0.25

एक उम्मीदवार को वैध मतों का 45% प्राप्त हुआ, कुल मतों का 25% अवैध था। यदि 12000 वोट डाले गए, तो दूसरे उम्मीदवार को कितने वैध वोट मिले?

Options :

1. ✖ 3590

2. ✖ 5600

3. ✖ 6250

4. ✔ 4950

Question Number : 95 Question Id : 54592742111 Question Type : MCQ Option Shuffling : Yes
Correct Marks : 1 Wrong Marks : 0.25

A man spends 30% of his income on food, 28% on child's education and 60% of the remaining on Rent. What percentage of his income is he left with?

Options :

1. ✖ 15.20%

2. ✖ 19.30%

3. ✖ 20.60%

4. ✔ 16.80%

Question Number : 95 Question Id : 54592742111 Question Type : MCQ Option Shuffling : Yes
Correct Marks : 1 Wrong Marks : 0.25

एक व्यक्ति अपनी आय का 30% भोजन पर, 28% बच्चे की शिक्षा पर और शेष 60% किराए पर खर्च करता है। उसकी आय का कितना प्रतिशत बचा है?

Options :

1. ✖ 15.20%
2. ✖ 19.30%
3. ✖ 20.60%
4. ✔ 16.80%

Question Number : 96 Question Id : 54592742112 Question Type : MCQ Option Shuffling : Yes
Correct Marks : 1 Wrong Marks : 0.25

The population of a town is 120000. $\frac{3}{5}$ th of them are males and the rest are females. If only 40% of the town's female are married then what percentage of males are married?

Options :

1. ✖ 19 $(\frac{6}{7})\%$
2. ✖ 24 $(\frac{4}{7})\%$
3. ✖ 32 $(\frac{2}{3})\%$
4. ✔ 26 $(\frac{2}{3})\%$

Question Number : 96 Question Id : 54592742112 Question Type : MCQ Option Shuffling : Yes
Correct Marks : 1 Wrong Marks : 0.25

एक शहर की आबादी 120000 है। उनमें से $\frac{3}{5}$ वें पुरुष हैं और बाकी महिलाएं हैं। यदि शहर की केवल 40% महिलाएं विवाहित हैं, तो पुरुषों का कितना प्रतिशत विवाहित है?

Options :

1. ✖ 19 $(\frac{6}{7})\%$
2. ✖ 24 $(\frac{4}{7})\%$

3. ✖ 32 (2/3)%

4. ✔ 26 (2/3)%

Question Number : 97 Question Id : 54592742113 Question Type : MCQ Option Shuffling : Yes

Correct Marks : 1 Wrong Marks : 0.25

Anandbhai sold two buffaloes at Rs 24000 each. He made a profit of 20% on one and a loss of 20% on the other. What is the total cost of the two buffaloes?

Options :

1. ✖ Rs 56000

2. ✖ Rs 42000

3. ✔ Rs 50000

4. ✖ Rs 63000

Question Number : 97 Question Id : 54592742113 Question Type : MCQ Option Shuffling : Yes

Correct Marks : 1 Wrong Marks : 0.25

आनंदभाई ने दो भैंस, प्रत्येक 24000 रुपए में बेचा। उसने एक पर 20% लाभ और दूसरे पर 20% का नुकसान किया। दो भैंसों की कुल लागत क्या है?

Options :

1. ✖ 56000 रुपए

2. ✖ 42000 रुपए

3. ✔ 50000 रुपए

4. ✖ 63000 रुपए

Question Number : 98 Question Id : 54592742114 Question Type : MCQ Option Shuffling : Yes

Correct Marks : 1 Wrong Marks : 0.25

A used car marked up his car by 30% on cost price and allowed the purchaser a discount of 15% on the marked price and he thereby gained Rs 33600. Find the cost price of the car?

Options :

1. ✓ Rs 3,20,000

2. ✗ Rs 3,00,000

3. ✗ Rs 3,50,000

4. ✗ Rs 3,75,000

Question Number : 98 Question Id : 54592742114 Question Type : MCQ Option Shuffling : Yes

Correct Marks : 1 Wrong Marks : 0.25

एक प्रयुक्त कार ने लागत मूल्य पर अपनी कार को 30% तक चिह्नित किया और खरीदार को चिह्नित मूल्य पर 15% की छूट दी और उसने 33600 रुपए प्राप्त किए। कार की लागत मूल्य ज्ञात करें?

Options :

1. ✓ 3,20,000 रुपए

2. ✗ 3,00,000 रुपए

3. ✗ 3,50,000 रुपए

4. ✗ 3,75,000 रुपए

Question Number : 99 Question Id : 54592742115 Question Type : MCQ Option Shuffling : Yes

Correct Marks : 1 Wrong Marks : 0.25

Ram purchased 20 scores of bananas at Rs 640. He then sells 20 dozens at Rs 36/dozen. What is his profit percentage?

Options :

1. ✗ 81%

2. ✗ 79.80%

3. ✗ 92.30%

4. ✓ 87.50%

Question Number : 99 Question Id : 54592742115 Question Type : MCQ Option Shuffling : Yes

Correct Marks : 1 Wrong Marks : 0.25

राम ने केले के 20 अंक 640 रुपए में खरीदे। उसने इसके बाद 20 दर्जनों को 36 रुपए/दर्जन में बेचा। उसका लाभ प्रतिशत क्या है?

Options :

1. ✖ 81%
2. ✖ 79.80%
3. ✖ 92.30%
4. ✔ 87.50%

Question Number : 100 Question Id : 54592742116 Question Type : MCQ Option Shuffling : Yes
Correct Marks : 1 Wrong Marks : 0.25

If X and Y together have Rs 1221. If $\frac{2}{3}$ th of X's amount is equal to $\frac{5}{9}$ th of Y's amount, how much does Y have?

Options :

1. ✖ Rs 444
2. ✔ Rs 666
3. ✖ Rs 555
4. ✖ Rs 999

Question Number : 100 Question Id : 54592742116 Question Type : MCQ Option Shuffling : Yes
Correct Marks : 1 Wrong Marks : 0.25

यदि X और Y के पास मिलाकर 1221 रुपए हैं। यदि X की राशि का $\frac{2}{3}$ वां हिस्सा Y की राशि के $\frac{5}{9}$ वें हिस्से के बराबर है, तो Y के पास कितना है?

Options :

1. ✖ 444 रुपए
2. ✔ 666 रुपए
3. ✖ 555 रुपए
4. ✖ 999 रुपए

Arithmetic Ability2

Group Id :	5459272086
Group Maximum Duration :	0
Group Minimum Duration :	0
Show Attended Group? :	No
Edit Attended Group? :	No
Break time:	0
Group Marks:	20
Is this Group for Examiner?:	No
Revisit allowed for group Instructions? :	Yes
Maximum Instruction Time:	0
Minimum Instruction Time:	0

Arithmetic Ability2

Section Id :	5459272086
Section Number :	1
Section type :	Online
Mandatory or Optional:	Mandatory
Number of Questions:	20
Number of Questions to be attempted:	20
Section Marks:	20

Sub-Section Number:	1
Sub-Section Id:	5459272502
Question Shuffling Allowed :	Yes

Question Number : 101 Question Id : 54592742117 Question Type : MCQ Option Shuffling : Yes

Correct Marks : 1 Wrong Marks : 0.25

The compound ratio of $\frac{2}{3} \times \frac{6}{7} \times \frac{4}{5} \times \frac{1}{8} \times \frac{7}{9}$ is:

Options :

1. ✓ $\frac{2}{45}$

2. ✗ $\frac{1}{46}$

3. ✗ $\frac{5}{72}$

4. ✗ $\frac{3}{56}$

Question Number : 101 Question Id : 54592742117 Question Type : MCQ Option Shuffling : Yes

Correct Marks : 1 Wrong Marks : 0.25

$\frac{2}{3} \times \frac{6}{7} \times \frac{4}{5} \times \frac{1}{8} \times \frac{7}{9}$ का यौगिक अनुपात है:

Options :

1. ✓ $\frac{2}{45}$

2. ✗ $\frac{1}{46}$

3. ✖ 5/72

4. ✖ 3/56

Question Number : 102 Question Id : 54592742118 Question Type : MCQ Option Shuffling : Yes
Correct Marks : 1 Wrong Marks : 0.25

X gets 2 times as much money as Y and Y gets rs 32 more than Z. They all in total get Rs 796. What is Y's share (in Rs)?

Options :

1. ✖ 187

2. ✖ 156

3. ✖ 232

4. ✔ 207

Question Number : 102 Question Id : 54592742118 Question Type : MCQ Option Shuffling : Yes
Correct Marks : 1 Wrong Marks : 0.25

X को Y से 2 गुना ज्यादा पैसा मिलता है, और Y को Z की तुलना में 32 रुपए अधिक मिलते हैं। उन्हें कुल 796 रुपए मिलते हैं। Y का हिस्सा कितने रुपए कितना है (रुपए में)?

Options :

1. ✖ 187

2. ✖ 156

3. ✖ 232

4. ✔ 207

Question Number : 103 Question Id : 54592742119 Question Type : MCQ Option Shuffling : Yes
Correct Marks : 1 Wrong Marks : 0.25

At the end of 5 years what will be the approximate compound interest at the rate of 16% p.a. on an amount of Rs 36000?

Options :

1. ✖ Rs 37712.32

2. ✓ Rs 39612.30

3. ✗ Rs 36264.4

4. ✗ Rs 41586.3

Question Number : 103 Question Id : 54592742119 Question Type : MCQ Option Shuffling : Yes
Correct Marks : 1 Wrong Marks : 0.25

5 वर्षों के अंत में 36000 रुपए की राशि पर 16% प्रति वर्ष की दर से अनुमानित चक्रवृद्धि ब्याज क्या होगा?

Options :

1. ✗ 37712.32 रुपए

2. ✓ 39612.30 रुपए

3. ✗ 36264.4 रुपए

4. ✗ 41586.3 रुपए

Question Number : 104 Question Id : 54592742120 Question Type : MCQ Option Shuffling : Yes
Correct Marks : 1 Wrong Marks : 0.25

How much more money approximately would Rs 20000 fetch if it is deposited at 15% p.a compounded half-yearly than 15% p.a compounded annually?

Options :

1. ✓ Rs 112.5

2. ✗ Rs 165.5

3. ✗ Rs 98.6

4. ✗ Rs 131.49

Question Number : 104 Question Id : 54592742120 Question Type : MCQ Option Shuffling : Yes
Correct Marks : 1 Wrong Marks : 0.25

यदि 15% प्रति वर्ष ब्याज पर जमा किया जाता है, तो प्रति वर्ष 15% प्रति वर्ष से अधिक वार्षिक रूप से जमा किए जाने पर कितना अधिक धन सन्निकट 20000 रुपए होगा।

Options :

1. ✓ 112.5 रुपए
2. ✗ 165.5 रुपए
3. ✗ 98.6 रुपए
4. ✗ 131.49 रुपए

Question Number : 105 Question Id : 54592742121 Question Type : MCQ Option Shuffling : Yes
Correct Marks : 1 Wrong Marks : 0.25

A man deposited Rs 6000 in the bank at 9% p.a. simple interest for 3 years. Another man deposited Rs 4500 at 12% p.a. compounded yearly for the same time. What is the approximate difference in the interest received?

Options :

1. ✗ Rs 222.19
2. ✓ Rs 202.18
3. ✗ Rs 193.68
4. ✗ Rs 216.56

Question Number : 105 Question Id : 54592742121 Question Type : MCQ Option Shuffling : Yes
Correct Marks : 1 Wrong Marks : 0.25

एक आदमी ने 3 वर्ष के लिए 9% प्रति वर्ष साधारण ब्याज पर बैंक में 6000 रुपए जमा किए। एक दूसरे व्यक्ति ने उतने ही समय के लिए वर्ष 12% प्रति वर्ष पर 4500 रुपए जमा किए। प्राप्त ब्याज में अनुमानित अंतर क्या है?

Options :

1. ✗ 222.19 रुपए
2. ✓ 202.18 रुपए
3. ✗ 193.68 रुपए
4. ✗ 216.56 रुपए

Question Number : 106 Question Id : 54592742122 Question Type : MCQ Option Shuffling : Yes
Correct Marks : 1 Wrong Marks : 0.25

An airplane flies a certain distance at a speed of 600 km/h in 4 hours. To cover the same distance in 3 hours, at what speed must it travel?

Options :

1. ✖ 700 km/h
2. ✔ 800 km/h
3. ✖ 740 km/h
4. ✖ 630 km/h

Question Number : 106 Question Id : 54592742122 Question Type : MCQ Option Shuffling : Yes
Correct Marks : 1 Wrong Marks : 0.25

एक हवाई जहाज 4 घंटे में 600 km/h की गति से एक निश्चित दूरी तय करता है। 3 घंटे में वही दूरी तय करने के लिए, उसे किस गति से यात्रा करनी चाहिए?

Options :

1. ✖ 700 km/h
2. ✔ 800 km/h
3. ✖ 740 km/h
4. ✖ 630 km/h

Question Number : 107 Question Id : 54592742123 Question Type : MCQ Option Shuffling : Yes
Correct Marks : 1 Wrong Marks : 0.25

One train sets off at 2 am from a station at the speed of 75 kmph. Another train sets off at 4 am from the same station in the same direction at 95 kmph. At what time the trains will meet?

Options :

1. ✔ 11:30 AM
2. ✖ 10:45 AM

3. * 12:00 noon

4. * 13:25 PM

Question Number : 107 Question Id : 54592742123 Question Type : MCQ Option Shuffling : Yes

Correct Marks : 1 Wrong Marks : 0.25

एक रेलगाड़ी 75 kmph की गति से एक स्टेशन से 2 पूर्वाह्न रवाना होती है। दूसरी रेलगाड़ी उसी स्टेशन से 4 पूर्वाह्न उसी दिशा में 95 kmph की रफ्तार से रवाना होती है। रेलगाड़ियाँ कितने समय बाद मिलेंगी?

Options :

1. ✓ 11:30 पूर्वाह्न

2. * 10:45 पूर्वाह्न

3. * 12:00 अपराह्न

4. * 13:25 अपराह्न

Question Number : 108 Question Id : 54592742124 Question Type : MCQ Option Shuffling : Yes

Correct Marks : 1 Wrong Marks : 0.25

A man went on a solo tour. He travelled the first 40 kms in 2 hours, the next 100 kms in 5 hours and the last 60 kms in 3 hours. What was the average speed of the journey?

Options :

1. ✓ 20 kmph

2. * 26 kmph

3. * 30 kmph

4. * 16 kmph

Question Number : 108 Question Id : 54592742124 Question Type : MCQ Option Shuffling : Yes

Correct Marks : 1 Wrong Marks : 0.25

एक आदमी एकल दूर पर गया था। उसने पहले 40 kms की यात्रा 2 घंटे में की, अगले 100 kms की दूरी 5 घंटे में और अंतिम 60 kms की दूरी 3 घंटे में तय की। यात्रा की औसत गति क्या थी?

Options :

1. ✓ 20 kmph
2. ✗ 26 kmph
3. ✗ 30 kmph
4. ✗ 16 kmph

Question Number : 109 Question Id : 54592742125 Question Type : MCQ Option Shuffling : Yes

Correct Marks : 1 Wrong Marks : 0.25

X and Y together can complete the work in 9 days. X alone takes to complete the work in 18 days. If Y only works for half a day daily then in how many days X and Y together will complete the work?

Options :

1. ✗ 10 days
2. ✓ 12 days
3. ✗ 11 days
4. ✗ 9 days

Question Number : 109 Question Id : 54592742125 Question Type : MCQ Option Shuffling : Yes

Correct Marks : 1 Wrong Marks : 0.25

X और Y मिलकर 9 दिनों में काम पूरा कर सकते हैं। X को अकेले 18 दिनों में काम पूरा करना होता है। यदि Y प्रतिदिन केवल आधे दिन काम करता है तो X और Y मिलकर कितने दिनों में काम पूरा करेंगे?

Options :

1. ✗ 10 दिन

2. ✓ 12 दिन

3. ✖ 11 दिन

4. ✖ 9 दिन

Question Number : 110 Question Id : 54592742126 Question Type : MCQ Option Shuffling : Yes

Correct Marks : 1 Wrong Marks : 0.25

After working for 7 days, Ajay finds out that only $\frac{1}{6}$ th of the work is done. He employs Binay who is 70% as efficient as Ajay. In what time will Binay be able to complete the work?

Options :

1. ✖ 45 days

2. ✓ 50 days

3. ✖ 53 days

4. ✖ 62 days

Question Number : 110 Question Id : 54592742126 Question Type : MCQ Option Shuffling : Yes

Correct Marks : 1 Wrong Marks : 0.25

7 दिनों तक काम करने के बाद, अजय को पता चलता है कि केवल $\frac{1}{6}$ वां हिस्सा काम पूरा हुआ है। वह बिनय को नियुक्त करता है जो अजय की तरह 70% कुशल है। बिनय कितने समय में कार्य को पूरा करने में सक्षम होगा?

Options :

1. ✖ 45 दिन

2. ✓ 50 दिन

3. ✖ 53 दिन

4. ✖ 62 दिन

Question Number : 111 Question Id : 54592742127 Question Type : MCQ Option Shuffling : Yes

Correct Marks : 1 Wrong Marks : 0.25

B can do a task alone in 51 days, C is thrice as efficient as B. B has worked for 15 days alone and then C joined him. In how many days will they finish the task together?

Options :

1. ✓ 9 days
2. ✗ 15 days
3. ✗ 12 days
4. ✗ 10 days

Question Number : 111 Question Id : 54592742127 Question Type : MCQ Option Shuffling : Yes

Correct Marks : 1 Wrong Marks : 0.25

B अकेले 51 दिनों में एक कार्य कर सकता है, C, B से तिगुना कुशल है। B ने 15 दिनों के लिए अकेले काम किया, उसके बाद C उसके साथ जुड़ गया। कितने दिनों में वे एक साथ कार्य पूरा करेंगे?

Options :

1. ✓ 9 दिन
2. ✗ 15 दिन
3. ✗ 12 दिन
4. ✗ 10 दिन

Question Number : 112 Question Id : 54592742128 Question Type : MCQ Option Shuffling : Yes

Correct Marks : 1 Wrong Marks : 0.25

Find the area of a trapezium whose sides are 22 cm and 16 cm long, and distance between them is 12 cm?

Options :

1. ✗ 252 sq cm
2. ✓ 228 sq cm
3. ✗ 274 sq cm
4. ✗ 208 sq cm

Question Number : 112 Question Id : 54592742128 Question Type : MCQ Option Shuffling : Yes
Correct Marks : 1 Wrong Marks : 0.25

एक समलम्ब का क्षेत्रफल ज्ञात करें, जिसका साइड 22 cm और 16 cm लंबा हैं, और उनके बीच की दूरी 12 cm है?

Options :

1. ✖ 252 sq cm
2. ✔ 228 sq cm
3. ✖ 274 sq cm
4. ✖ 208 sq cm

Question Number : 113 Question Id : 54592742129 Question Type : MCQ Option Shuffling : Yes
Correct Marks : 1 Wrong Marks : 0.25

The radius and slant height of a cone measure 21 cm and 35 cm respectively. Find the volume of the cone.

Options :

1. ✖ 6894 sq cm
2. ✖ 9654 sq cm
3. ✖ 15648 sq cm
4. ✔ 12936 sq cm

Question Number : 113 Question Id : 54592742129 Question Type : MCQ Option Shuffling : Yes
Correct Marks : 1 Wrong Marks : 0.25

शंकु की त्रिज्या और तिरछी ऊँचाई क्रमशः 21 cm और 35 cm हैं।
शंकु का आयतन ज्ञात करें।

Options :

1. ✖ 6894 sq cm
2. ✖ 9654 sq cm
3. ✖ 15648 sq cm
4. ✔ 12936 sq cm

Question Number : 114 Question Id : 54592742130 Question Type : MCQ Option Shuffling : Yes
Correct Marks : 1 Wrong Marks : 0.25

A metallic sphere of radius 12 cm is melted and drawn into a wire, whose radius cross section is 16 cm. What is the length of the wire?

Options :

1. ✖ 6 cm
2. ✖ 8 cm
3. ✔ 9 cm
4. ✖ 12 cm

Question Number : 114 Question Id : 54592742130 Question Type : MCQ Option Shuffling : Yes
Correct Marks : 1 Wrong Marks : 0.25

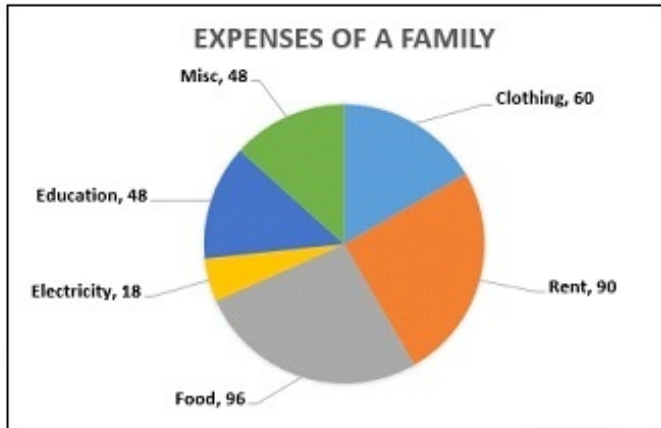
12 cm के त्रिज्या के एक धातु को पिघलाया जाता है और एक तार में खींचा जाता है, जिसका त्रिज्या अनुप्रस्थ काट 16 cm है। तार की लंबाई क्या है?

Options :

1. ✖ 6 cm
2. ✖ 8 cm
3. ✔ 9 cm
4. ✖ 12 cm

Question Number : 115 Question Id : 54592742131 Question Type : MCQ Option Shuffling : Yes
Correct Marks : 1 Wrong Marks : 0.25

In the given pie-chart of family X's expenses; what percentage of food and electricity constitutes of the whole expenditure?



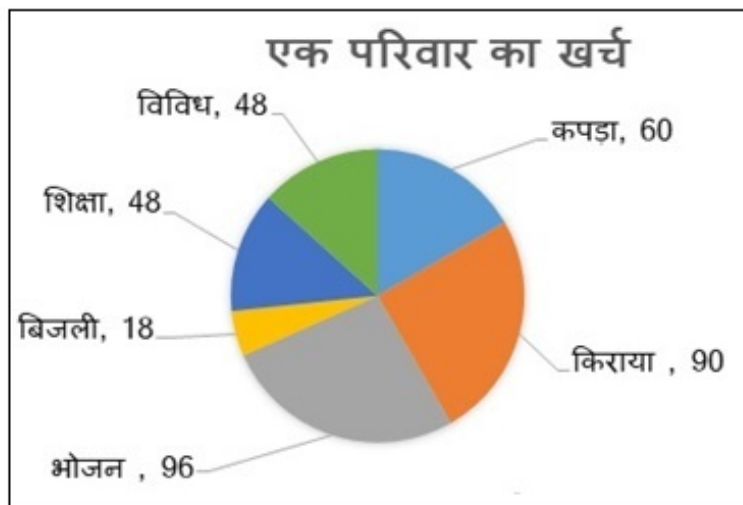
Options :

1. ✖ 32.75%
2. ✖ 40.62%
3. ✖ 28.67%
4. ✔ 31.67%

Question Number : 115 Question Id : 54592742131 Question Type : MCQ Option Shuffling : Yes

Correct Marks : 1 Wrong Marks : 0.25

एक परिवार X के खर्चों के दिए गए पाई-चार्ट में; संपूर्ण व्यय का कितना औसत प्रतिशत भोजन और बिजली पर खर्च होता है?



Options :

1. ✖ 32.75%

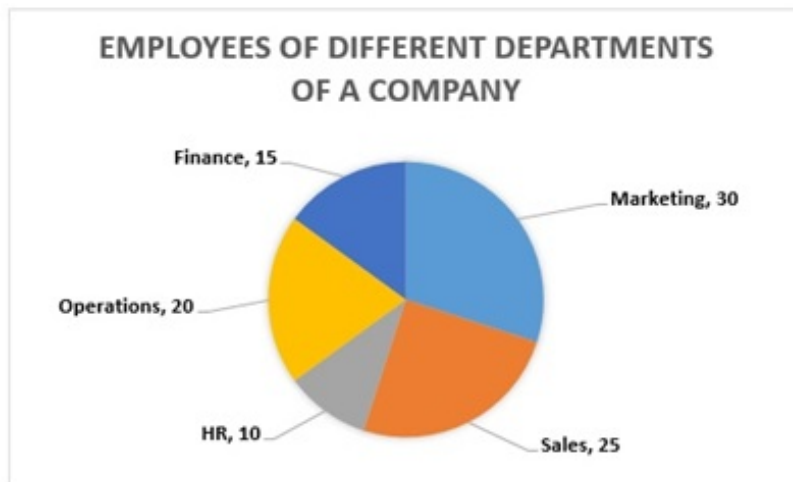
2. ✖ 40.62%

3. ✖ 28.67%

4. ✔ 31.67%

Question Number : 116 Question Id : 54592742132 Question Type : MCQ Option Shuffling : Yes
Correct Marks : 1 Wrong Marks : 0.25

From the given pie-chart of the employees of different departments of a company, find out which departments has the highest number of employees and which has the lowest?



Options :

1. ✖ Marketing and Finance

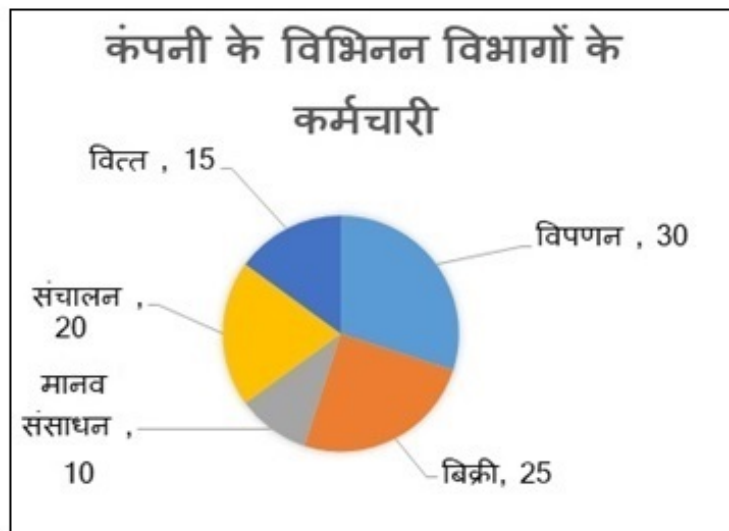
2. ✔ Marketing and HR

3. ✖ Marketing and sales

4. ✖ Sales and Operations

Question Number : 116 Question Id : 54592742132 Question Type : MCQ Option Shuffling : Yes
Correct Marks : 1 Wrong Marks : 0.25

एक कंपनी के विभिन्न विभागों के कर्मचारियों के दिए गए पाई-चार्ट से, ज्ञात करें कि किस विभाग में कर्मचारियों की संख्या सबसे अधिक है और किस विभाग में सबसे कम है?



Options :

1. ✖ विपणन और वित्त
2. ✔ विपणन और मानव संसाधन
3. ✖ विपणन और बिक्री
4. ✖ बिक्री और संचालन

Question Number : 117 Question Id : 54592742133 Question Type : MCQ Option Shuffling : Yes

Correct Marks : 1 Wrong Marks : 0.25

From the given table, how many students have scored below 10 marks in both subjects?

Subject	Marks out of 50				
	40 and above	30 and above	20 and above	10 and above	0 and above
Algebra	10	30	80	90	100
Geometry	4	20	70	80	100
Average (Aggregate)	7	25	75	85	100

Options :

1. ✖ 10

2. ✖ 20

3. ✔ 30

4. ✖ 50

Question Number : 117 Question Id : 54592742133 Question Type : MCQ Option Shuffling : Yes
Correct Marks : 1 Wrong Marks : 0.25

दी गई तालिका में, दो विषयों में कितने छात्रों ने 10 अंक से नीचे स्कोर किया है?

विषय	50 में से अंक				
	40 और ऊपर	30 और ऊपर	20 और ऊपर	10 और ऊपर	0 और ऊपर
बीजगणित	10	30	80	90	100
ज्यामिति	4	20	70	80	100
औसत (पूर्णयोग)	7	25	75	85	100

Options :

1. ✖ 10

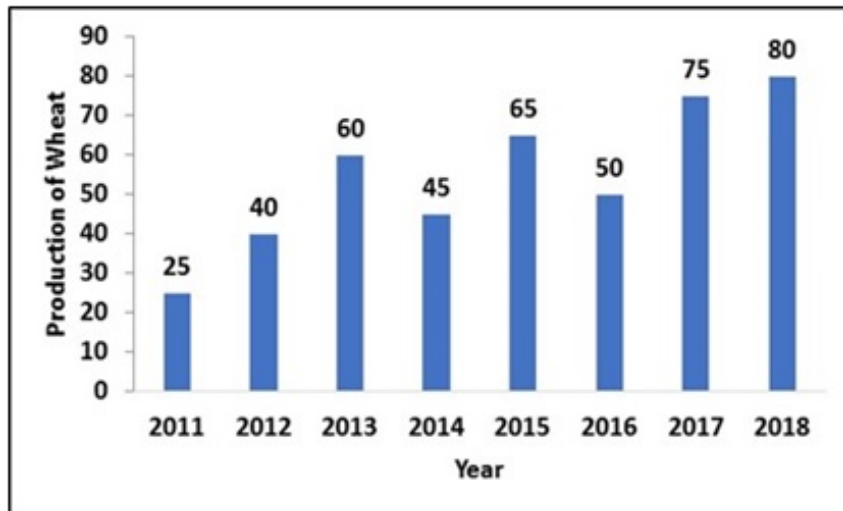
2. ✖ 20

3. ✔ 30

4. ✖ 50

Question Number : 118 Question Id : 54592742134 Question Type : MCQ Option Shuffling : Yes
Correct Marks : 1 Wrong Marks : 0.25

From the given bar chart what was the growth in production of wheat from 2016 to 2017?

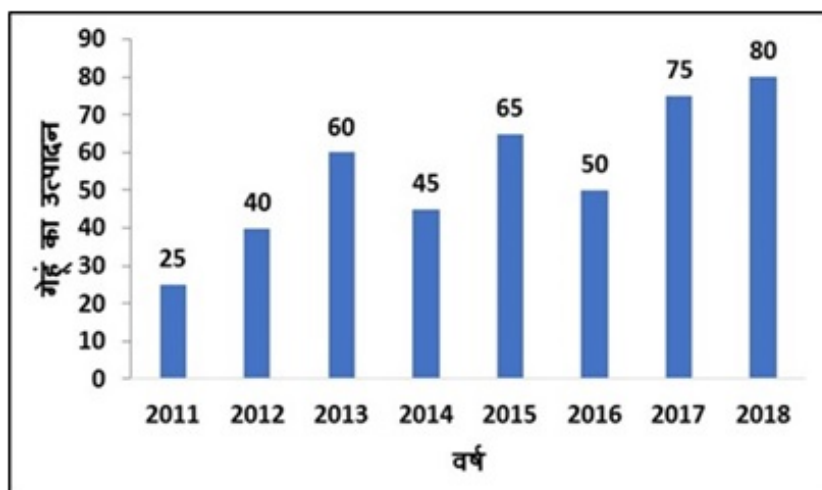


Options :

1. ✖ 45%
2. ✖ 58%
3. ✔ 50%
4. ✖ 30%

Question Number : 118 Question Id : 54592742134 Question Type : MCQ Option Shuffling : Yes
Correct Marks : 1 Wrong Marks : 0.25

दिए गए बार चार्ट में 2016 से 2017 तक गेहूं के उत्पादन में कितनी वृद्धि थी?



Options :

1. ✖ 45%

2. ✖ 58%

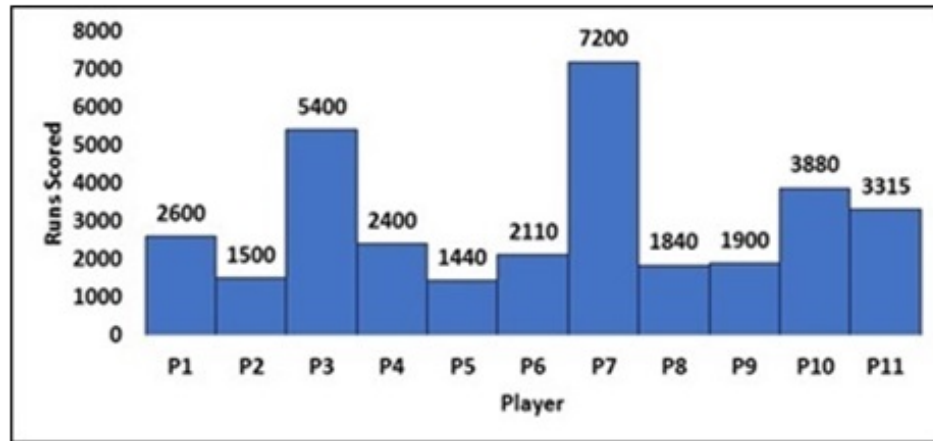
3. ✔ 50%

4. ✖ 30%

Question Number : 119 Question Id : 54592742135 Question Type : MCQ Option Shuffling : Yes

Correct Marks : 1 Wrong Marks : 0.25

From the given chart, how many players have scored more than 3000 runs in their carer?



Options :

1. ✔ 4

2. ✖ 3

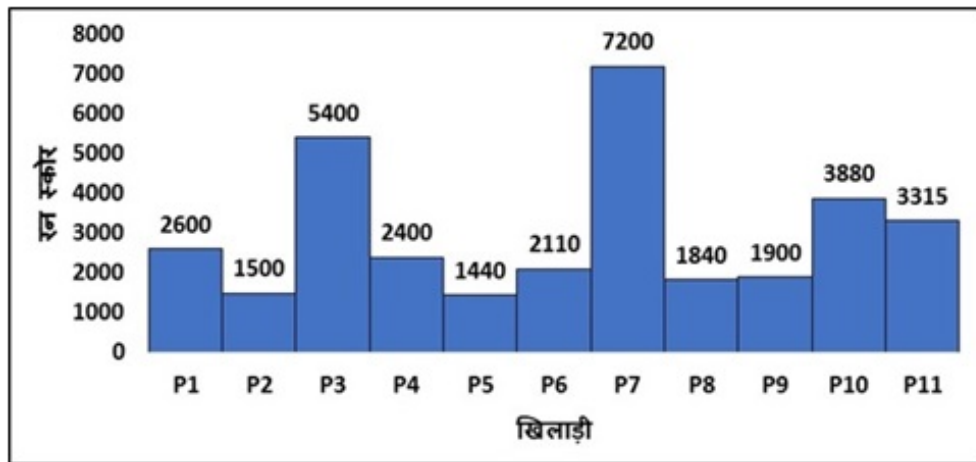
3. ✖ 5

4. ✖ 2

Question Number : 119 Question Id : 54592742135 Question Type : MCQ Option Shuffling : Yes

Correct Marks : 1 Wrong Marks : 0.25

दिए गए चार्ट में, कितने खिलाड़ियों ने अपने करियर में 3000 से अधिक रन बनाए हैं?



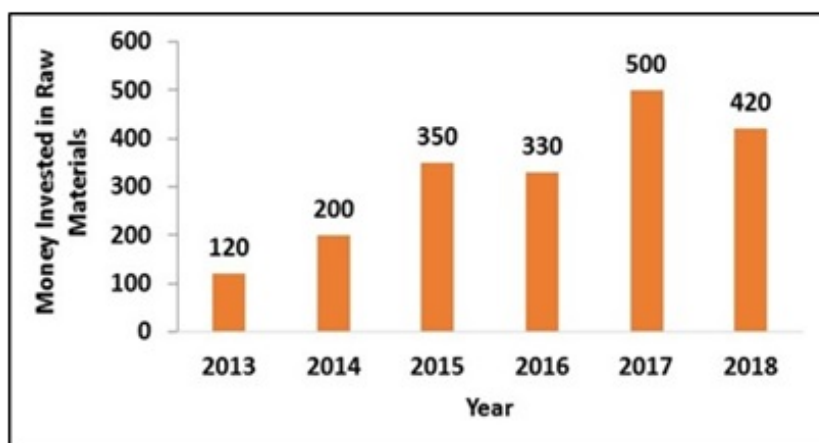
Options :

- ✓ 4
- ✗ 3
- ✗ 5
- ✗ 2

Question Number : 120 Question Id : 54592742136 Question Type : MCQ Option Shuffling : Yes

Correct Marks : 1 Wrong Marks : 0.25

From the given chart what % hike in raw materials is observed from 2016 to 2017?



Options :

- ✗ 48.22%

2. ✓ 51.51%

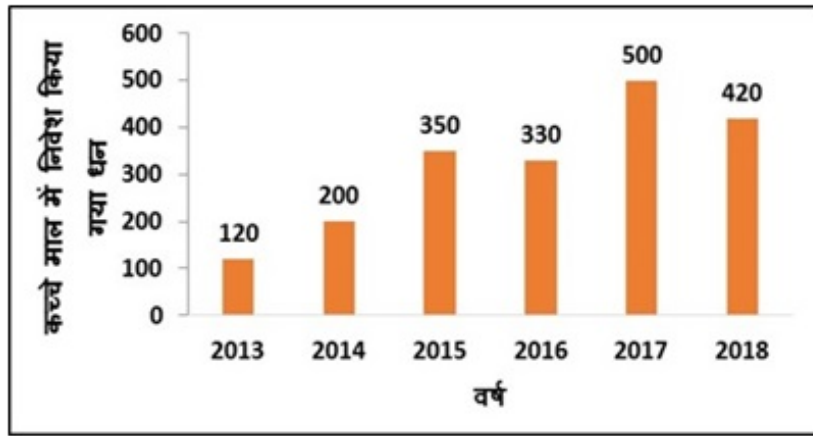
3. ✗ 55.65%

4. ✗ 41.69%

Question Number : 120 Question Id : 54592742136 Question Type : MCQ Option Shuffling : Yes

Correct Marks : 1 Wrong Marks : 0.25

दिए गए चार्ट में 2016 से 2017 तक कच्चे माल में कितना % वृद्धि पाई गई ?



Options :

1. ✗ 48.22%

2. ✓ 51.51%

3. ✗ 55.65%

4. ✗ 41.69%

General English1

Group Number :	7
Group Id :	5459272087
Group Maximum Duration :	0
Group Minimum Duration :	0
Show Attended Group? :	No
Edit Attended Group? :	No
Break time:	0
Group Marks:	20
Is this Group for Examiner? :	No
Revisit allowed for group Instructions? :	Yes
Maximum Instruction Time:	0

General English1

Section Id :	5459272087
Section Number :	1
Section type :	Online
Mandatory or Optional:	Mandatory
Number of Questions:	20
Number of Questions to be attempted:	20
Section Marks:	20

Sub-Section Number:	1
Sub-Section Id:	5459272503
Question Shuffling Allowed :	Yes

Question Number : 121 Question Id : 54592742137 Question Type : MCQ Option Shuffling : Yes

Correct Marks : 1 Wrong Marks : 0.25

In the following statement, one part of the sentence may have an error. Find out which part of the sentence has an error and click the button corresponding to it. If the sentence is free from error, select the "No error" option.

(A) I'm very worried as neither/ (B) of my friends have returned / (C) from the cave./ (D) No error

Options :

1. ✓ A

2. ✗ B

3. ✗ C

4. ✗ D

Question Number : 121 Question Id : 54592742137 Question Type : MCQ Option Shuffling : Yes

Correct Marks : 1 Wrong Marks : 0.25

In the following statement, one part of the sentence may have an error. Find out which part of the sentence has an error and click the button corresponding to it. If the sentence is free from error, select the "No error" option.

(A) I'm very worried as neither/ (B) of my friends have returned / (C) from the cave./ (D) No error

Options :

1. ✓ A

2. ✗ B

3. ✗ C

4. ✗ D

Question Number : 122 Question Id : 54592742138 Question Type : MCQ Option Shuffling : Yes
Correct Marks : 1 Wrong Marks : 0.25

In the following statement, one part of the sentence may have an error. Find out which part of the sentence has an error and click the button corresponding to it. If the sentence is free from error, select the "No error" option.

(A) Though my grandmother has/ (B) became old, she / (C) is healthy./ (D) No error

Options :

1. ✗ A

2. ✓ B

3. ✗ C

4. ✗ D

Question Number : 122 Question Id : 54592742138 Question Type : MCQ Option Shuffling : Yes
Correct Marks : 1 Wrong Marks : 0.25

In the following statement, one part of the sentence may have an error. Find out which part of the sentence has an error and click the button corresponding to it. If the sentence is free from error, select the "No error" option.

(A) Though my grandmother has/ (B) became old, she / (C) is healthy./ (D) No error

Options :

1. ✖ A

2. ✔ B

3. ✖ C

4. ✖ D

Question Number : 123 Question Id : 54592742139 Question Type : MCQ Option Shuffling : Yes
Correct Marks : 1 Wrong Marks : 0.25

In the following statement, one part of the sentence may have an error. Find out which part of the sentence has an error and click the button corresponding to it. If the sentence is free from error, select the "No error" option.

(A) Gangotri has a/ (B) special significance in / (C) the history of India./ (D) No error

Options :

1. ✖ A

2. ✖ B

3. ✖ C

4. ✓ D

Question Number : 123 Question Id : 54592742139 Question Type : MCQ Option Shuffling : Yes
Correct Marks : 1 Wrong Marks : 0.25

In the following statement, one part of the sentence may have an error. Find out which part of the sentence has an error and click the button corresponding to it. If the sentence is free from error, select the "No error" option.

(A) Gangotri has a/ (B) special significance in / (C) the history of India./ (D) No error

Options :

1. ✗ A

2. ✗ B

3. ✗ C

4. ✓ D

Question Number : 124 Question Id : 54592742140 Question Type : MCQ Option Shuffling : Yes
Correct Marks : 1 Wrong Marks : 0.25

In the following statement, one part of the sentence may have an error. Find out which part of the sentence has an error and click the button corresponding to it. If the sentence is free from error, select the "No error" option.

(A) It being a sunny day/ (B) we decided to / (C) stay in home/ (D) No error

Options :

1. ✗ A

2. ✗ B

3. ✓ C

4. ✗ D

Question Number : 124 Question Id : 54592742140 Question Type : MCQ Option Shuffling : Yes

Correct Marks : 1 Wrong Marks : 0.25

In the following statement, one part of the sentence may have an error. Find out which part of the sentence has an error and click the button corresponding to it. If the sentence is free from error, select the "No error" option.

(A) It being a sunny day/ (B) we decided to / (C) stay in home/ (D) No error

Options :

1. ✗ A

2. ✗ B

3. ✓ C

4. ✗ D

Question Number : 125 Question Id : 54592742141 Question Type : MCQ Option Shuffling : Yes

Correct Marks : 1 Wrong Marks : 0.25

In the following statement, one part of the sentence may have an error. Find out which part of the sentence has an error and click the button corresponding to it. If the sentence is free from error, select the "No error" option.

(A) Simran was shocked/ (B) to hear that his mother / (C) died of an accident./ (D) No error

Note: For this question, discrepancy is found in question/answer. So, this question is ignored for all candidates.

Options :

1. A
2. B
3. C
4. D

Question Number : 125 Question Id : 54592742141 Question Type : MCQ Option Shuffling : Yes
Correct Marks : 1 Wrong Marks : 0.25

In the following statement, one part of the sentence may have an error. Find out which part of the sentence has an error and click the button corresponding to it. If the sentence is free from error, select the "No error" option.

(A) Simran was shocked/ (B) to hear that his mother / (C) died of an accident./ (D) No error

Note: For this question, discrepancy is found in question/answer. So, this question is ignored for all candidates.

Options :

1. A
2. B
3. C
4. D

Question Number : 126 Question Id : 54592742142 Question Type : MCQ Option Shuffling : Yes
Correct Marks : 1 Wrong Marks : 0.25

Replace the words in the bracket from the set of options given.

Megha has lived in Singapore (since) a long time.

Options :

1. * with

2. ✓ for

3. ✗ from

4. ✗ No correction

Question Number : 126 Question Id : 54592742142 Question Type : MCQ Option Shuffling : Yes
Correct Marks : 1 Wrong Marks : 0.25

Replace the words in the bracket from the set of options given.

Megha has lived in Singapore (since) a long time.

Options :

1. ✗ with

2. ✓ for

3. ✗ from

4. ✗ No correction

Question Number : 127 Question Id : 54592742143 Question Type : MCQ Option Shuffling : Yes
Correct Marks : 1 Wrong Marks : 0.25

Replace the words in the bracket from the set of options given.

What (are) needed are not free metro rides but women safety.

Options :

1. ✗ was

2. ✗ were

3. ✓ is

4. ✗ No correction

Question Number : 127 Question Id : 54592742143 Question Type : MCQ Option Shuffling : Yes
Correct Marks : 1 Wrong Marks : 0.25

Replace the words in the bracket from the set of options given.

What (are) needed are not free metro rides but women safety.

Options :

1. ✖ was

2. ✖ were

3. ✔ is

4. ✖ No correction

Question Number : 128 Question Id : 54592742144 Question Type : MCQ Option Shuffling : Yes

Correct Marks : 1 Wrong Marks : 0.25

Replace the words in the bracket from the set of options given.

He walked his dog (since) four hours.

Options :

1. ✔ for

2. ✖ from

3. ✖ with

4. ✖ No correction

Question Number : 128 Question Id : 54592742144 Question Type : MCQ Option Shuffling : Yes

Correct Marks : 1 Wrong Marks : 0.25

Replace the words in the bracket from the set of options given.

He walked his dog (since) four hours.

Options :

1. ✓ for
2. ✗ from
3. ✗ with
4. ✗ No correction

Question Number : 129 Question Id : 54592742145 Question Type : MCQ Option Shuffling : Yes
Correct Marks : 1 Wrong Marks : 0.25

Replace the words in the bracket from the set of options given.

They may be eagle-eyed or watch like a (links)

Options :

1. ✗ lank
2. ✗ link
3. ✓ lynx
4. ✗ No correction

Question Number : 129 Question Id : 54592742145 Question Type : MCQ Option Shuffling : Yes
Correct Marks : 1 Wrong Marks : 0.25

Replace the words in the bracket from the set of options given.

They may be eagle-eyed or watch like a (links)

Options :

1. ✗ lank
2. ✗ link
3. ✓ lynx
4. ✗ No correction

Question Number : 130 Question Id : 54592742146 Question Type : MCQ Option Shuffling : Yes

Correct Marks : 1 Wrong Marks : 0.25

Replace the words in the bracket from the set of options given.

The student (told his teacher) to explain the text.

Options :

1. ✖ called his teacher
2. ✔ asked his teacher
3. ✖ pleaded his teacher
4. ✖ No correction

Question Number : 130 Question Id : 54592742146 Question Type : MCQ Option Shuffling : Yes

Correct Marks : 1 Wrong Marks : 0.25

Replace the words in the bracket from the set of options given.

The student (told his teacher) to explain the text.

Options :

1. ✖ called his teacher
2. ✔ asked his teacher
3. ✖ pleaded his teacher
4. ✖ No correction

Question Number : 131 Question Id : 54592742147 Question Type : MCQ Option Shuffling : Yes

Correct Marks : 1 Wrong Marks : 0.25

Fill in the blanks with appropriate word.

Cinderella's ugly stepsisters had the _____ habit of popping their zits in public.

Options :

1. ✖ pallid

2. ✖ ostensible

3. ✖ paragon

4. ✔ odious

Question Number : 131 Question Id : 54592742147 Question Type : MCQ Option Shuffling : Yes
Correct Marks : 1 Wrong Marks : 0.25

Fill in the blanks with appropriate word.

Cinderella's ugly stepsisters had the _____ habit of popping their zits in public.

Options :

1. ✖ pallid

2. ✖ ostensible

3. ✖ paragon

4. ✔ odious

Question Number : 132 Question Id : 54592742148 Question Type : MCQ Option Shuffling : Yes
Correct Marks : 1 Wrong Marks : 0.25

Fill in the blanks with appropriate word.

They had a _____ agreement based on only a handshake.

Options :

1. ✖ timid

2. ✔ tacit

3. ✖ temerity

4. ✖ tenuous

Question Number : 132 Question Id : 54592742148 Question Type : MCQ Option Shuffling : Yes
Correct Marks : 1 Wrong Marks : 0.25

Fill in the blanks with appropriate word.

They had a _____ agreement based on only a handshake.

Options :

1. ✘ timid
2. ✔ tacit
3. ✘ temerity
4. ✘ tenuous

Question Number : 133 Question Id : 54592742149 Question Type : MCQ Option Shuffling : Yes
Correct Marks : 1 Wrong Marks : 0.25

Fill in the blanks with appropriate word.

Kailash was _____ in his refusal to listen to our complaints.

Options :

1. ✘ obsequious
2. ✘ obfuscate
3. ✘ oblique
4. ✔ obdurate

Question Number : 133 Question Id : 54592742149 Question Type : MCQ Option Shuffling : Yes
Correct Marks : 1 Wrong Marks : 0.25

Fill in the blanks with appropriate word.

Kailash was _____ in his refusal to listen to our complaints.

Options :

1. ✘ obsequious

2. ✖ obfuscate

3. ✖ oblique

4. ✔ obdurate

Question Number : 134 Question Id : 54592742150 Question Type : MCQ Option Shuffling : Yes
Correct Marks : 1 Wrong Marks : 0.25

Fill in the blanks with appropriate word.

_____ being ill, she enjoyed the function.

Options :

1. ✔ Despite

2. ✖ Through

3. ✖ Since

4. ✖ Also

Question Number : 134 Question Id : 54592742150 Question Type : MCQ Option Shuffling : Yes
Correct Marks : 1 Wrong Marks : 0.25

Fill in the blanks with appropriate word.

_____ being ill, she enjoyed the function.

Options :

1. ✔ Despite

2. ✖ Through

3. ✖ Since

4. ✖ Also

Question Number : 135 Question Id : 54592742151 Question Type : MCQ Option Shuffling : Yes
Correct Marks : 1 Wrong Marks : 0.25

Fill in the blanks with appropriate word.

Did you meet Seema _____ your vacation?

Options :

1. ✖ for
2. ✖ while
3. ✔ during
4. ✖ from

Question Number : 135 Question Id : 54592742151 Question Type : MCQ Option Shuffling : Yes

Correct Marks : 1 Wrong Marks : 0.25

Fill in the blanks with appropriate word.

Did you meet Seema _____ your vacation?

Options :

1. ✖ for
2. ✖ while
3. ✔ during
4. ✖ from

Question Number : 136 Question Id : 54592742152 Question Type : MCQ Option Shuffling : Yes

Correct Marks : 1 Wrong Marks : 0.25

Fill in the blanks with appropriate word.

Sakshi was worried _____ Manish was alright.

Options :

1. ✖ of
2. ✖ from
3. ✔ whether

4. ✖ despite

Question Number : 136 Question Id : 54592742152 Question Type : MCQ Option Shuffling : Yes
Correct Marks : 1 Wrong Marks : 0.25

Fill in the blanks with appropriate word.

Sakshi was worried _____ Manish was alright.

Options :

1. ✖ of
2. ✖ from
3. ✓ whether
4. ✖ despite

Question Number : 137 Question Id : 54592742153 Question Type : MCQ Option Shuffling : Yes
Correct Marks : 1 Wrong Marks : 0.25

Fill in the blanks with appropriate word.

Sadie's cowboy hat was _____ with her black cocktail dress.

Options :

1. ✓ incongruous
2. ✖ incumbent
3. ✖ indecorous
4. ✖ insinuate

Question Number : 137 Question Id : 54592742153 Question Type : MCQ Option Shuffling : Yes
Correct Marks : 1 Wrong Marks : 0.25

Fill in the blanks with appropriate word.

Sadie's cowboy hat was _____ with her black cocktail dress.

Options :

1. ✓ incongruous
2. ✗ incumbent
3. ✗ indecorous
4. ✗ insinuate

Question Number : 138 Question Id : 54592742154 Question Type : MCQ Option Shuffling : Yes
Correct Marks : 1 Wrong Marks : 0.25

Fill in the blanks with appropriate word.

The _____ winter scene made Krishna long for the vibrant colors of spring.

Options :

1. ✗ derelict
2. ✗ discern
3. ✗ disdain
4. ✓ drab

Question Number : 138 Question Id : 54592742154 Question Type : MCQ Option Shuffling : Yes
Correct Marks : 1 Wrong Marks : 0.25

Fill in the blanks with appropriate word.

The _____ winter scene made Krishna long for the vibrant colors of spring.

Options :

1. ✖ derelict

2. ✖ discern

3. ✖ disdain

4. ✔ drab

Question Number : 139 Question Id : 54592742155 Question Type : MCQ Option Shuffling : Yes
Correct Marks : 1 Wrong Marks : 0.25

The questions below consist of a set of labelled parts of a sentence. Out of four options given, select the most logical order of the parts which form a coherent sentence.

Differentials in the rates of growth

P : each country lend additional dimensions

Q : across different aspects of

R : to the inter-country comparisons

S : economic and social life within

Options :

1. ✖ PQSR

2. ✖ RSQP

3. ✖ QSRP

4. ✔ QSPR

Question Number : 139 Question Id : 54592742155 Question Type : MCQ Option Shuffling : Yes
Correct Marks : 1 Wrong Marks : 0.25

The questions below consist of a set of labelled parts of a sentence. Out of four options given, select the most logical order of the parts which form a coherent sentence.

Differentials in the rates of growth

P : each country lend additional dimensions

Q : across different aspects of

R : to the inter-country comparisons

S : economic and social life within

Options :

1. ✘ PQSR

2. ✘ RSQP

3. ✘ QSRP

4. ✔ QSPR

Question Number : 140 Question Id : 54592742156 Question Type : MCQ Option Shuffling : Yes

Correct Marks : 1 Wrong Marks : 0.25

The questions below consist of a set of labelled parts of a sentence. Out of four options given, select the most logical order of the parts which form a coherent sentence.

Differentials in the rates of growth

P : each country lend additional dimensions

Q : across different aspects of

R : to the inter-country comparisons

S : economic and social life within

Options :

1. ✘ SPRQ

2. ✓ QRPS

3. ✗ PSQR

4. ✗ RSQP

Question Number : 140 Question Id : 54592742156 Question Type : MCQ Option Shuffling : Yes
Correct Marks : 1 Wrong Marks : 0.25

The question below consist of a set of labelled sentences. Out of four options given, select the most logical order of the sentences which form a paragraph.

There is no point in having three cement businesses in three different companies.

P : For instance, if you have to sell a cement plant that Grasim industries owns and move it to another company, there is going to be capital gains, tax and stamp duty.

Q : Individual companies within the group have to rationalise their businesses, and will have to be given a lot more autonomy in decision-making.

R : But you do have to cross lots of internal hurdles.

S : And it may be uneconomical to do so given the tax structure the government of India has.

So, there has to be a re-think on that if the government wants companies to be efficient.

Options :

1. ✗ SPRQ

2. ✓ QRPS

3. * PSQR

4. * RSQP

General English2

Group Number :	8
Group Id :	5459272088
Group Maximum Duration :	0
Group Minimum Duration :	0
Show Attended Group? :	No
Edit Attended Group? :	No
Break time:	0
Group Marks:	20
Is this Group for Examiner?:	No
Revisit allowed for group Instructions? :	Yes
Maximum Instruction Time:	0
Minimum Instruction Time:	0

General English2

Section Id :	5459272088
Section Number :	1
Section type :	Online
Mandatory or Optional:	Mandatory
Number of Questions:	16
Number of Questions to be attempted:	16
Section Marks:	20

Sub-Section Number:	1
Sub-Section Id:	5459272504
Question Shuffling Allowed :	Yes

Question Number : 141 Question Id : 54592742157 Question Type : MCQ Option Shuffling : Yes
Correct Marks : 1 Wrong Marks : 0.25

The questions below consist of a set of labelled parts of a sentence. Out of four options given, select the most logical order of the parts which form a coherent sentence.

Development programs

P : five year plans in India

Q : with the developed economies

R : under the aegis of

S : have aimed at catching up

Options :

1. ✓ RPSQ

2. ✗ QRPS

3. ✗ RQPS

4. ✗ PQSR

Question Number : 141 Question Id : 54592742157 Question Type : MCQ Option Shuffling : Yes

Correct Marks : 1 Wrong Marks : 0.25

The questions below consist of a set of labelled parts of a sentence. Out of four options given, select the most logical order of the parts which form a coherent sentence.

Development programs

P : five year plans in India

Q : with the developed economies

R : under the aegis of

S : have aimed at catching up

Options :

1. ✓ RPSQ

2. ✖ QRPS

3. ✖ RQPS

4. ✖ PQSR

Question Number : 142 Question Id : 54592742158 Question Type : MCQ Option Shuffling : Yes
Correct Marks : 1 Wrong Marks : 0.25

Out of the four alternatives, choose the word which best expresses the MEANING of the given word.

Barbarous

Options :

1. ✖ Tough

2. ✖ Charming

3. ✖ Civilized

4. ✔ Brutal

Question Number : 142 Question Id : 54592742158 Question Type : MCQ Option Shuffling : Yes
Correct Marks : 1 Wrong Marks : 0.25

Out of the four alternatives, choose the word which best expresses the MEANING of the given word.

Barbarous

Options :

1. ✖ Tough

2. ✖ Charming

3. ✖ Civilized

4. ✔ Brutal

Question Number : 143 Question Id : 54592742159 Question Type : MCQ Option Shuffling : Yes
Correct Marks : 1 Wrong Marks : 0.25

Out of the four alternatives, choose the word which best expresses the MEANING of the given word.

Shrewd

Options :

1. ✖ Scorn
2. ✖ Simple
3. ✔ Cunning
4. ✖ Modest

Question Number : 143 Question Id : 54592742159 Question Type : MCQ Option Shuffling : Yes
Correct Marks : 1 Wrong Marks : 0.25

Out of the four alternatives, choose the word which best expresses the MEANING of the given word.

Shrewd

Options :

1. ✖ Scorn
2. ✖ Simple
3. ✔ Cunning
4. ✖ Modest

Question Number : 144 Question Id : 54592742160 Question Type : MCQ Option Shuffling : Yes
Correct Marks : 1 Wrong Marks : 0.25

Out of the four alternatives, choose the word which best expresses the MEANING of the given word.

Jaded

Options :

1. ✔ Exhausted

2. ✖ Renewed

3. ✖ Tangled

4. ✖ Regulated

Question Number : 144 Question Id : 54592742160 Question Type : MCQ Option Shuffling : Yes
Correct Marks : 1 Wrong Marks : 0.25

Out of the four alternatives, choose the word which best expresses the MEANING of the given word.

Jaded

Options :

1. ✔ Exhausted

2. ✖ Renewed

3. ✖ Tangled

4. ✖ Regulated

Question Number : 145 Question Id : 54592742161 Question Type : MCQ Option Shuffling : Yes
Correct Marks : 1 Wrong Marks : 0.25

Out of the four alternatives, choose the word which is OPPOSITE in meaning to the given word.

Clandestine

Options :

1. ✖ Diffuse

2. ✖ Liberal

3. ✖ Covert

4. ✔ Legal

Question Number : 145 Question Id : 54592742161 Question Type : MCQ Option Shuffling : Yes
Correct Marks : 1 Wrong Marks : 0.25

Out of the four alternatives, choose the word which is OPPOSITE in meaning to the given word.

Clandestine

Options :

1. ✖ Diffuse
2. ✖ Liberal
3. ✖ Covert
4. ✔ Legal

Question Number : 146 Question Id : 54592742162 Question Type : MCQ Option Shuffling : Yes
Correct Marks : 1 Wrong Marks : 0.25

Out of the four alternatives, choose the word which is OPPOSITE in meaning to the given word.

Murky

Options :

1. ✖ Trivial
2. ✖ Distinct
3. ✖ Dusky
4. ✔ Bright

Question Number : 146 Question Id : 54592742162 Question Type : MCQ Option Shuffling : Yes
Correct Marks : 1 Wrong Marks : 0.25

Out of the four alternatives, choose the word which is OPPOSITE in meaning to the given word.

Murky

Options :

1. ✖ Trivial
2. ✖ Distinct
3. ✖ Dusky
4. ✔ Bright

Question Number : 147 Question Id : 54592742163 Question Type : MCQ Option Shuffling : Yes
Correct Marks : 1 Wrong Marks : 0.25

Four words are given, out of which only one word is spelt correctly. Choose the correctly spelt word.

Options :

1. ✖ Evanscend
2. ✔ Evanescent
3. ✖ Evansecent
4. ✖ Evanescente

Question Number : 147 Question Id : 54592742163 Question Type : MCQ Option Shuffling : Yes
Correct Marks : 1 Wrong Marks : 0.25

Four words are given, out of which only one word is spelt correctly. Choose the correctly spelt word.

Options :

1. ✖ Evanscend
2. ✔ Evanescent
3. ✖ Evansecent
4. ✖ Evanescente

Question Number : 148 Question Id : 54592742164 Question Type : MCQ Option Shuffling : Yes
Correct Marks : 1 Wrong Marks : 0.25

Four words are given, out of which only one word is spelt correctly. Choose the correctly spelt word.

Options :

1. ✖ Diaphanious
2. ✖ Diephanose
3. ✔ Diaphanous
4. ✖ Diaphotous

Question Number : 148 Question Id : 54592742164 Question Type : MCQ Option Shuffling : Yes
Correct Marks : 1 Wrong Marks : 0.25

Four words are given, out of which only one word is spelt correctly. Choose the correctly spelt word.

Options :

1. ✖ Diaphanious
2. ✖ Diephanose
3. ✔ Diaphanous
4. ✖ Diaphotous

Question Number : 149 Question Id : 54592742165 Question Type : MCQ Option Shuffling : Yes
Correct Marks : 1 Wrong Marks : 0.25

Four words are given, out of which only one word is spelt correctly. Choose the correctly spelt word.

Options :

1. ✔ Legerdemain
2. ✖ Legitermine
3. ✖ Legredemian
4. ✖ Legerdemine

Question Number : 149 Question Id : 54592742165 Question Type : MCQ Option Shuffling : Yes
Correct Marks : 1 Wrong Marks : 0.25

Four words are given, out of which only one word is spelt correctly. Choose the correctly spelt word.

Options :

1. ✓ Legerdemain

2. ✗ Legitermine

3. ✗ Legredemian

4. ✗ Legerdemine

Question Number : 150 Question Id : 54592742166 Question Type : MCQ Option Shuffling : Yes
Correct Marks : 1 Wrong Marks : 0.25

What does the following idiom mean?

Far cry from

Options :

1. ✗ To be very sad

2. ✗ Feeling slightly ill

3. ✗ Keep something away

4. ✓ To be very different from others

Question Number : 150 Question Id : 54592742166 Question Type : MCQ Option Shuffling : Yes
Correct Marks : 1 Wrong Marks : 0.25

What does the following idiom mean?

Far cry from

Options :

1. ✗ To be very sad

2. ✗ Feeling slightly ill

3. ✗ Keep something away

4. ✓ To be very different from others

Question Number : 151 Question Id : 54592742167 Question Type : MCQ Option Shuffling : Yes
Correct Marks : 1 Wrong Marks : 0.25

What does the following idiom mean?

See eye to eye

Options :

1. ✓ Agreeing with someone
2. ✗ To disrespect someone
3. ✗ To pick up a fight with someone
4. ✗ Something that is very expensive

Question Number : 151 Question Id : 54592742167 Question Type : MCQ Option Shuffling : Yes
Correct Marks : 1 Wrong Marks : 0.25

What does the following idiom mean?

See eye to eye

Options :

1. ✓ Agreeing with someone
2. ✗ To disrespect someone
3. ✗ To pick up a fight with someone
4. ✗ Something that is very expensive

Question Number : 152 Question Id : 54592742168 Question Type : MCQ Option Shuffling : Yes
Correct Marks : 1 Wrong Marks : 0.25

What does the following idiom mean?

To chew the cud

Options :

1. ✗ To laugh heartily
2. ✓ To ponder over something
3. ✗ To be honest and open
4. ✗ To be comfortable

Question Number : 152 Question Id : 54592742168 Question Type : MCQ Option Shuffling : Yes
Correct Marks : 1 Wrong Marks : 0.25

What does the following idiom mean?

To chew the cud

Options :

1. ✖ To laugh heartily
2. ✔ To ponder over something
3. ✖ To be honest and open
4. ✖ To be comfortable

Question Number : 153 Question Id : 54592742169 Question Type : MCQ Option Shuffling : Yes
Correct Marks : 1 Wrong Marks : 0.25

In the following question, out of four alternatives, select the alternative which is the best substitute of the words/sentences.

One who is recovering health after illness

Options :

1. ✖ Demagogue
2. ✖ Coquette
3. ✖ Connoisseur
4. ✔ Convalescent

Question Number : 153 Question Id : 54592742169 Question Type : MCQ Option Shuffling : Yes
Correct Marks : 1 Wrong Marks : 0.25

In the following question, out of four alternatives, select the alternative which is the best substitute of the words/sentences.

One who is recovering health after illness

Options :

1. ✖ Demagogue
2. ✖ Coquette
3. ✖ Connoisseur
4. ✔ Convalescent

Question Number : 154 Question Id : 54592742170 Question Type : MCQ Option Shuffling : Yes

Correct Marks : 1 Wrong Marks : 0.25

In the following question, out of four alternatives, select the alternative which is the best substitute of the words/sentences.

One who collect coins as a hobby

Options :

1. ✖ Philogynist
2. ✔ Numismatist
3. ✖ Narcissist
4. ✖ Somnambulist

Question Number : 154 Question Id : 54592742170 Question Type : MCQ Option Shuffling : Yes

Correct Marks : 1 Wrong Marks : 0.25

In the following question, out of four alternatives, select the alternative which is the best substitute of the words/sentences.

One who collect coins as a hobby

Options :

1. ✖ Philogynist
2. ✔ Numismatist
3. ✖ Narcissist
4. ✖ Somnambulist

Question Number : 155 Question Id : 54592742171 Question Type : MCQ Option Shuffling : Yes

Correct Marks : 1 Wrong Marks : 0.25

In the following question, out of four alternatives, select the alternative which is the best substitute of the words/sentences.

A person who draws or produces maps

Options :

1. ✖ Lexicographer
2. ✖ Calligrapher
3. ✔ Cartographer
4. ✖ Sculptor

Question Number : 155 Question Id : 54592742171 Question Type : MCQ Option Shuffling : Yes

Correct Marks : 1 Wrong Marks : 0.25

In the following question, out of four alternatives, select the alternative which is the best substitute of the words/sentences.

A person who draws or produces maps

Options :

1. ✖ Lexicographer
2. ✖ Calligrapher
3. ✔ Cartographer
4. ✖ Sculptor

Sub-Section Number:	2
Sub-Section Id:	5459272505
Question Shuffling Allowed :	Yes

Question Id : 54592742172 Question Type : COMPREHENSION Sub Question Shuffling Allowed : Yes Group Comprehension Questions : No

Question Numbers : (156 to 160)

Question Label : Comprehension

Read the following Passage and answer the questions.

Mamzelle Aurlie possessed a good strong figure, ruddy cheeks, hair that was changing from brown to gray, and a determined eye. She wore a man's hat about the farm, and an old blue army overcoat when it was cold, and sometimes top-boots. Mamzelle Aurlie had never thought of marrying. She had never been in love. At the age of twenty she had received a proposal, which she had promptly declined, and at the age of fifty she had not yet lived to regret it.

So she was quite alone in the world, except for her dog Ponto, and the labourers who lived in her cabins and worked her crops, and the fowls, a few cows, a couple of mules, her gun (with which she shot chicken-hawks), and her religion. One morning Mamzelle Aurlie stood upon her gallery, contemplating, with arms akimbo, a small band of very small children who, to all intents and purposes, might have fallen from the clouds, so unexpected and bewildering was their coming, and so unwelcome. They were the children of her nearest neighbour, Odile, who was not such a near neighbour, after all. The young woman had appeared but five minutes before, accompanied by these four children. In her arms she carried little Lodie; she dragged Ti Nomme by an unwilling hand; while Marcline and Marclette followed with irresolute steps

Sub questions

Question Number : 156 Question Id : 54592742173 Question Type : MCQ Option Shuffling : Yes

Correct Marks : 1 Wrong Marks : 0.25

How old was Mamzelle Aurlie?

Options :

1. ✖ Twenty years old
2. ✖ Thirty years old
3. ✔ Fifty years old
4. ✖ Forty years old

Question Number : 157 Question Id : 54592742174 Question Type : MCQ Option Shuffling : Yes
Correct Marks : 1 Wrong Marks : 0.25

Who was Aurlie's nearest neighbour?

Options :

1. ✖ Ponto
2. ✔ Odile
3. ✖ Marcline
4. ✖ Lodie

Question Number : 158 Question Id : 54592742175 Question Type : MCQ Option Shuffling : Yes
Correct Marks : 1 Wrong Marks : 0.25

At what age did Mamzelle Aurlie receive a proposal?

Options :

1. ✔ Twenty
2. ✖ Thirty
3. ✖ Fifty
4. ✖ Sixteen

Question Number : 159 Question Id : 54592742176 Question Type : MCQ Option Shuffling : Yes
Correct Marks : 1 Wrong Marks : 0.25

What was the name of Mamzelle Aurlie's dog?

Options :

1. ✖ Marclette
2. ✖ Marcline
3. ✖ Ti Nomme
4. ✔ Ponto

Question Number : 160 Question Id : 54592742177 Question Type : MCQ Option Shuffling : Yes

Correct Marks : 1 Wrong Marks : 0.25

Who among the following were unwelcome by Aurlie?

Options :

1. ✖ Labourers who lived in her cabins
2. ✖ Her brother
3. ✔ Her neighbour's children
4. ✖ Her dog Ponto

Question Id : 54592742172 Question Type : COMPREHENSION Sub Question Shuffling Allowed : Yes Group Comprehension Questions : No

Question Numbers : (156 to 160)

Question Label : Comprehension

Read the following passage and answer the following questions.

Mamzelle Aurlie possessed a good strong figure, ruddy cheeks, hair that was changing from brown to gray, and a determined eye. She wore a man's hat about the farm, and an old blue army overcoat when it was cold, and sometimes top-boots. Mamzelle Aurlie had never thought of marrying. She had never been in love. At the age of twenty she had received a proposal, which she had promptly declined, and at the age of fifty she had not yet lived to regret it.

So she was quite alone in the world, except for her dog Ponto, and the labourers who lived in her cabins and worked her crops, and the fowls, a few cows, a couple of mules, her gun (with which she shot chicken-hawks), and her religion. One morning Mamzelle Aurlie stood upon her gallery, contemplating, with arms akimbo, a small band of very small children who, to all intents and purposes, might have fallen from the clouds, so unexpected and bewildering was their coming, and so unwelcome. They were the children of her nearest neighbour, Odile, who was not such a near neighbour, after all. The young woman had appeared but five minutes before, accompanied by these four children. In her arms she carried little Lodie; she dragged Ti Nomme by an unwilling hand; while Marcline and Marclette followed with irresolute steps

Sub questions

Question Number : 156 Question Id : 54592742173 Question Type : MCQ Option Shuffling : Yes
Correct Marks : 1 Wrong Marks : 0.25

How old was Mamzelle Aurlie?

Options :

1. ✘ Twenty years old
2. ✘ Thirty years old
3. ✔ Fifty years old
4. ✘ Forty years old

Question Number : 157 Question Id : 54592742174 Question Type : MCQ Option Shuffling : Yes
Correct Marks : 1 Wrong Marks : 0.25

Who was Aurlie's nearest neighbour?

Options :

1. ✘ Ponto
2. ✔ Odile
3. ✘ Marcline
4. ✘ Lodie

Question Number : 158 Question Id : 54592742175 Question Type : MCQ Option Shuffling : Yes
Correct Marks : 1 Wrong Marks : 0.25

At what age did Mamzelle Aurlie receive a proposal?

Options :

1. ✔ Twenty
2. ✘ Thirty
3. ✘ Fifty
4. ✘ Sixteen

Question Number : 159 Question Id : 54592742176 Question Type : MCQ Option Shuffling : Yes
Correct Marks : 1 Wrong Marks : 0.25

What was the name of Mamzelle Aurlie's dog?

Options :

1. ✘ Marclette
2. ✘ Marcline
3. ✘ Ti Nomme
4. ✔ Ponto

Question Number : 160 Question Id : 54592742177 Question Type : MCQ Option Shuffling : Yes
Correct Marks : 1 Wrong Marks : 0.25

Who among the following were unwelcome by Aurlie?

Options :

1. ✘ Labourers who lived in her cabins
2. ✘ Her brother
3. ✔ Her neighbour's children
4. ✘ Her dog Ponto

General Hindi1

Group Number :	9
Group Id :	5459272089
Group Maximum Duration :	0
Group Minimum Duration :	0
Show Attended Group? :	No
Edit Attended Group? :	No
Break time:	0
Group Marks:	20
Is this Group for Examiner?:	No
Revisit allowed for group Instructions? :	Yes
Maximum Instruction Time:	0
Minimum Instruction Time:	0

General Hindi1

Section Id :	5459272089
Section Number :	1

Section type :	Online
Mandatory or Optional:	Mandatory
Number of Questions:	20
Number of Questions to be attempted:	20
Section Marks:	20

Sub-Section Number:	1
Sub-Section Id:	5459272506
Question Shuffling Allowed :	Yes

Question Number : 161 Question Id : 54592742178 Question Type : MCQ Option Shuffling : Yes

Correct Marks : 1 Wrong Marks : 0.25

निम्नलिखित प्रश्न में, चार विकल्पों में से, उस विकल्प का चयन करें जो दिए गए सही संधि विच्छेद की संधि का सही विकल्प हो।

दुः + गम

Options :

1. * दुरगम
2. * दुहगम
3. ✓ दुर्गम
4. * दूर्गम

Question Number : 161 Question Id : 54592742178 Question Type : MCQ Option Shuffling : Yes

Correct Marks : 1 Wrong Marks : 0.25

निम्नलिखित प्रश्न में, चार विकल्पों में से, उस विकल्प का चयन करें जो दिए गए सही संधि विच्छेद की संधि का सही विकल्प हो।

दुः + गम

Options :

1. * दुरगम
2. * दुहगम
3. ✓ दुर्गम
4. * दूर्गम

Question Number : 162 Question Id : 54592742179 Question Type : MCQ Option Shuffling : Yes

Correct Marks : 1 Wrong Marks : 0.25

निम्नलिखित प्रश्न में, चार विकल्पों में से, उस विकल्प का चयन करें जो उपसर्ग से बने शब्द का सही विकल्प हो।

Options :

1. ✓ परिवर्तन
2. * धोतियाँ
3. * विस्मित
4. * स्वर्गीय

Question Number : 162 Question Id : 54592742179 Question Type : MCQ Option Shuffling : Yes

Correct Marks : 1 Wrong Marks : 0.25

निम्नलिखित प्रश्न में, चार विकल्पों में से, उस विकल्प का चयन करें जो उपसर्ग से बने शब्द का सही विकल्प हो।

Options :

1. ✓ परिवर्तन
2. * धोतियाँ
3. * विस्मित
4. * स्वर्गीय

Question Number : 163 Question Id : 54592742180 Question Type : MCQ Option Shuffling : Yes

Correct Marks : 1 Wrong Marks : 0.25

निम्नलिखित प्रश्न में, चार विकल्पों में से, उस विकल्प का चयन करें जो दिए गए शब्द का सही तद्भव रूप वाला विकल्प हो।

पिपासा

Options :

1. ✓ प्यास
2. * तीव्र
3. * पोथी
4. * पाती

Question Number : 163 Question Id : 54592742180 Question Type : MCQ Option Shuffling : Yes
Correct Marks : 1 Wrong Marks : 0.25

निम्नलिखित प्रश्न में, चार विकल्पों में से, उस विकल्प का चयन करें जो दिए गए शब्द का सही तद्भव रूप वाला विकल्प हो।

पिपासा

Options :

1. ✓ प्यास
2. ✗ तीव्र
3. ✗ पोथी
4. ✗ पाती

Question Number : 164 Question Id : 54592742181 Question Type : MCQ Option Shuffling : Yes
Correct Marks : 1 Wrong Marks : 0.25

निम्नलिखित प्रश्न में, चार विकल्पों में से, उस विकल्प का चयन करें जो विदेशी शब्द का सही विकल्प नहीं हो।

Options :

1. ✗ नोटिस
2. ✗ जिस्म
3. ✗ सूद
4. ✓ टोटी

Question Number : 164 Question Id : 54592742181 Question Type : MCQ Option Shuffling : Yes
Correct Marks : 1 Wrong Marks : 0.25

निम्नलिखित प्रश्न में, चार विकल्पों में से, उस विकल्प का चयन करें जो विदेशी शब्द का सही विकल्प नहीं हो।

Options :

1. ✗ नोटिस
2. ✗ जिस्म
3. ✗ सूद

4. ✓ टोटी

Question Number : 165 Question Id : 54592742182 Question Type : MCQ Option Shuffling : Yes

Correct Marks : 1 Wrong Marks : 0.25

निम्नलिखित प्रश्न में, चार विकल्पों में से, उस विकल्प का चयन करें जो कोष्ठक में दिए गए शब्द के अनुसार विशेषण के भेद वाला विकल्प हो।

(किसका) सामान चोरी हुआ था?

Options :

1. * अनिश्चित संख्यावाचक
2. * अनिश्चित परिमाणवाचक
3. * गुणवाचक
4. ✓ सार्वनामिक

Question Number : 165 Question Id : 54592742182 Question Type : MCQ Option Shuffling : Yes

Correct Marks : 1 Wrong Marks : 0.25

निम्नलिखित प्रश्न में, चार विकल्पों में से, उस विकल्प का चयन करें जो कोष्ठक में दिए गए शब्द के अनुसार विशेषण के भेद वाला विकल्प हो।

(किसका) सामान चोरी हुआ था?

Options :

1. * अनिश्चित संख्यावाचक
2. * अनिश्चित परिमाणवाचक
3. * गुणवाचक
4. ✓ सार्वनामिक

Question Number : 166 Question Id : 54592742183 Question Type : MCQ Option Shuffling : Yes

Correct Marks : 1 Wrong Marks : 0.25

निम्नलिखित प्रश्न में, चार विकल्पों में से, उस विकल्प का चयन करें जो दिए गए शब्द के पर्यायवाची शब्द का विकल्प नहीं है।

शरीर -

Options :

1. ✓ हेम
2. * गात
3. * काया
4. * बदन

Question Number : 166 Question Id : 54592742183 Question Type : MCQ Option Shuffling : Yes

Correct Marks : 1 Wrong Marks : 0.25

निम्नलिखित प्रश्न में, चार विकल्पों में से, उस विकल्प का चयन करें जो दिए गए शब्द के पर्यायवाची शब्द का विकल्प नहीं है।

शरीर -

Options :

1. ✓ हेम
2. * गात
3. * काया
4. * बदन

Question Number : 167 Question Id : 54592742184 Question Type : MCQ Option Shuffling : Yes

Correct Marks : 1 Wrong Marks : 0.25

निम्नलिखित प्रश्न में, चार विकल्पों में से, उस विकल्प का चयन करें जो दिए गए शब्द के विलोम शब्द का सही विकल्प है।

तप -

Options :

1. * परिश्रम

2. * नियंत्रण

3. * योगाभ्यास

4. ✓ विलास

Question Number : 167 Question Id : 54592742184 Question Type : MCQ Option Shuffling : Yes

Correct Marks : 1 Wrong Marks : 0.25

निम्नलिखित प्रश्न में, चार विकल्पों में से, उस विकल्प का चयन करें जो दिए गए शब्द के विलोम शब्द का सही विकल्प है।

तप -

Options :

1. * परिश्रम

2. * नियंत्रण

3. * योगाभ्यास

4. ✓ विलास

Question Number : 168 Question Id : 54592742185 Question Type : MCQ Option Shuffling : Yes

Correct Marks : 1 Wrong Marks : 0.25

निम्नलिखित प्रश्न में, चार विकल्पों में से, उस सही विकल्प का चयन करें जो दिए गए शब्द-युग्म के अर्थ का सही विकल्प हो।

दशन-दसन

Options :

1. ✓ दांत और नाश

2. * दस और दंश

3. * दस और दांत

4. * दांत और दंश

Question Number : 168 Question Id : 54592742185 Question Type : MCQ Option Shuffling : Yes

Correct Marks : 1 Wrong Marks : 0.25

निम्नलिखित प्रश्न में, चार विकल्पों में से, उस सही विकल्प का चयन करें जो दिए गए शब्द-युग्म के अर्थ का सही विकल्प हो।

दशन-दसन

Options :

1. ✓ दांत और नाश
2. * दस और दंश
3. * दस और दांत
4. * दांत और दंश

Question Number : 169 Question Id : 54592742186 Question Type : MCQ Option Shuffling : Yes

Correct Marks : 1 Wrong Marks : 0.25

निम्नलिखित प्रश्न में, चार विकल्पों में से, उस विकल्प का चयन करें जो दिए गए वाक्यांश के लिए एक शब्द का सही विकल्प है।

हृदय की बातें जानने वाला -

Options :

1. * अंतरिक्ष
2. * अदृश्य
3. * अद्वितीय
4. ✓ अंतर्दामी

Question Number : 169 Question Id : 54592742186 Question Type : MCQ Option Shuffling : Yes

Correct Marks : 1 Wrong Marks : 0.25

निम्नलिखित प्रश्न में, चार विकल्पों में से, उस विकल्प का चयन करें जो दिए गए वाक्यांश के लिए एक शब्द का सही विकल्प है।

हृदय की बातें जानने वाला -

Options :

1. ✖ अंतरिक्ष
2. ✖ अदृश्य
3. ✖ अद्वितीय
4. ✔ अंतर्यामी

Question Number : 170 Question Id : 54592742187 Question Type : MCQ Option Shuffling : Yes
Correct Marks : 1 Wrong Marks : 0.25

निम्नलिखित प्रश्न में, चार विकल्पों में से, उस सही विकल्प का चयन करें जो रिक्त स्थान के लिए उचित विकल्प हो।

ओह! बच्चे के पैर में काँटा _____ गया है

Options :

1. ✖ गढ़ना
2. ✖ गाढ़
3. ✖ गढ़
4. ✔ गड़

Question Number : 170 Question Id : 54592742187 Question Type : MCQ Option Shuffling : Yes
Correct Marks : 1 Wrong Marks : 0.25

निम्नलिखित प्रश्न में, चार विकल्पों में से, उस सही विकल्प का चयन करें जो रिक्त स्थान के लिए उचित विकल्प हो।

ओह! बच्चे के पैर में काँटा _____ गया है

Options :

1. ✖ गढ़ना
2. ✖ गाढ़
3. ✖ गढ़
4. ✔ गड़

Question Number : 171 Question Id : 54592742188 Question Type : MCQ Option Shuffling : Yes
Correct Marks : 1 Wrong Marks : 0.25

निम्नलिखित प्रश्न में, चार विकल्पों में से, उस विकल्प का चयन करें जो दिए गए शब्द के समानार्थी शब्द का विकल्प नहीं है।

ठठोली -

Options :

1. * मजाक
2. * परिहास
3. ✓ ठठरी
4. * ठिठोली

Question Number : 171 Question Id : 54592742188 Question Type : MCQ Option Shuffling : Yes
Correct Marks : 1 Wrong Marks : 0.25

निम्नलिखित प्रश्न में, चार विकल्पों में से, उस विकल्प का चयन करें जो दिए गए शब्द के समानार्थी शब्द का विकल्प नहीं है।

ठठोली -

Options :

1. * मजाक
2. * परिहास
3. ✓ ठठरी
4. * ठिठोली

Question Number : 172 Question Id : 54592742189 Question Type : MCQ Option Shuffling : Yes
Correct Marks : 1 Wrong Marks : 0.25

निम्नलिखित प्रश्न में, चार विकल्पों में से, उस सही विकल्प का चयन करें जो रिक्त स्थान के लिए उपयुक्त शब्द का सही विकल्प है।

मैंने सारा जीवन सत्य बोलने की _____ की है

Options :

1. * प्रशंसा
2. * अधिकार
3. * प्रतीक्षा
4. ✓ प्रतिज्ञा

Question Number : 172 Question Id : 54592742189 Question Type : MCQ Option Shuffling : Yes
Correct Marks : 1 Wrong Marks : 0.25

निम्नलिखित प्रश्न में, चार विकल्पों में से, उस सही विकल्प का चयन करें जो रिक्त स्थान के लिए उपयुक्त शब्द का सही विकल्प है।

मैंने सारा जीवन सत्य बोलने की _____ की है

Options :

1. * प्रशंसा
2. * अधिकार
3. * प्रतीक्षा
4. ✓ प्रतिज्ञा

Question Number : 173 Question Id : 54592742190 Question Type : MCQ Option Shuffling : Yes
Correct Marks : 1 Wrong Marks : 0.25

निम्नलिखित प्रश्न में, चार विकल्पों में से, उस विकल्प का चयन करें जो शुद्ध शब्द का सही विकल्प है।

Options :

1. * अधयता
2. * अधियता
3. * अधियेता
4. ✓ अध्येता

Question Number : 173 Question Id : 54592742190 Question Type : MCQ Option Shuffling : Yes
Correct Marks : 1 Wrong Marks : 0.25

निम्नलिखित प्रश्न में, चार विकल्पों में से, उस विकल्प का चयन करें जो शुद्ध शब्द का सही विकल्प है।

Options :

1. * अधयता
2. * अधियता
3. * अधियेता
4. ✓ अध्येता

Question Number : 174 Question Id : 54592742191 Question Type : MCQ Option Shuffling : Yes

Correct Marks : 1 Wrong Marks : 0.25

निम्नलिखित प्रश्न में, चार विकल्पों में से, उस विकल्प का चयन करें जो शुद्ध शब्द का सही विकल्प है।

Options :

1. * अवनीइंद्र
2. * अवनीनदर
3. * अवनिन्द्र
4. ✓ अवनींद्र

Question Number : 174 Question Id : 54592742191 Question Type : MCQ Option Shuffling : Yes

Correct Marks : 1 Wrong Marks : 0.25

निम्नलिखित प्रश्न में, चार विकल्पों में से, उस विकल्प का चयन करें जो शुद्ध शब्द का सही विकल्प है।

Options :

1. * अवनीइंद्र
2. * अवनीनदर
3. * अवनिन्द्र
4. ✓ अवनींद्र

Question Number : 175 Question Id : 54592742192 Question Type : MCQ Option Shuffling : Yes

Correct Marks : 1 Wrong Marks : 0.25

निम्नलिखित प्रश्न में, चार विकल्पों में से, उस विकल्प का चयन करें जो शुद्ध शब्द का सही विकल्प है।

Options :

1. * देवर्चन
2. * देवारचन
3. ✓ देवार्चन
4. * देवार्चन

Question Number : 175 Question Id : 54592742192 Question Type : MCQ Option Shuffling : Yes

Correct Marks : 1 Wrong Marks : 0.25

निम्नलिखित प्रश्न में, चार विकल्पों में से, उस विकल्प का चयन करें जो शुद्ध शब्द का सही विकल्प है।

Options :

1. * देवर्चन
2. * देवारचन
3. ✓ देवार्चन
4. * देवार्चन

Question Number : 176 Question Id : 54592742193 Question Type : MCQ Option Shuffling : Yes

Correct Marks : 1 Wrong Marks : 0.25

निम्नलिखित प्रश्न में, चार विकल्पों में से, उस विकल्प का चयन करें जो सदा पुल्लिंग शब्द वाला सही विकल्प है।

Options :

1. * शाखा
2. * लज्जा
3. * लोमड़ी
4. ✓ नाटक

Question Number : 176 Question Id : 54592742193 Question Type : MCQ Option Shuffling : Yes

Correct Marks : 1 Wrong Marks : 0.25

निम्नलिखित प्रश्न में, चार विकल्पों में से, उस विकल्प का चयन करें जो सदा पुल्लिंग शब्द वाला सही विकल्प है।

Options :

1. * शाखा
2. * लज्जा
3. * लोमड़ी
4. ✓ नाटक

Question Number : 177 Question Id : 54592742194 Question Type : MCQ Option Shuffling : Yes
Correct Marks : 1 Wrong Marks : 0.25

निम्नलिखित प्रश्न में, चार विकल्पों में से, उस विकल्प का चयन करें जो सदा स्त्रीलिंग वाला शब्द है।

Options :

1. * तन
2. * कैलाश
3. ✓ प्रथमा
4. * हिमाचल

Question Number : 177 Question Id : 54592742194 Question Type : MCQ Option Shuffling : Yes
Correct Marks : 1 Wrong Marks : 0.25

निम्नलिखित प्रश्न में, चार विकल्पों में से, उस विकल्प का चयन करें जो सदा स्त्रीलिंग वाला शब्द है।

Options :

1. * तन
2. * कैलाश
3. ✓ प्रथमा
4. * हिमाचल

Question Number : 178 Question Id : 54592742195 Question Type : MCQ Option Shuffling : Yes
Correct Marks : 1 Wrong Marks : 0.25

निम्नलिखित प्रश्न में, चार विकल्पों में से, उस विकल्प का चयन करें जो सदा एकवचन शब्द का सबसे अच्छा विकल्प है।

Options :

1. * बाल
2. ✓ लस्सी
3. * भूख
4. * जूते

Question Number : 178 Question Id : 54592742195 Question Type : MCQ Option Shuffling : Yes

Correct Marks : 1 Wrong Marks : 0.25

निम्नलिखित प्रश्न में, चार विकल्पों में से, उस विकल्प का चयन करें जो सदा एकवचन शब्द का सबसे अच्छा विकल्प है।

Options :

1. * बाल
2. ✓ लस्सी
3. * भूख
4. * जूते

Question Number : 179 Question Id : 54592742196 Question Type : MCQ Option Shuffling : Yes

Correct Marks : 1 Wrong Marks : 0.25

निम्नलिखित प्रश्न में, चार विकल्पों में से, उस विकल्प का चयन करें जो कोष्ठक में दिए गए शब्द के अनुसार उत्तम पुरुष वाचक सर्वनाम का सबसे अच्छा विकल्प है।

Options :

1. ✓ (हम) सब घूमने जा रहे हैं।
2. * (तुम) अपना काम करो।
3. * (उनका) कुछ भरोसा नहीं।
4. * (यह) गलत होगा।

Question Number : 179 Question Id : 54592742196 Question Type : MCQ Option Shuffling : Yes

Correct Marks : 1 Wrong Marks : 0.25

निम्नलिखित प्रश्न में, चार विकल्पों में से, उस विकल्प का चयन करें जो कोष्ठक में दिए गए शब्द के अनुसार उत्तम पुरुष वाचक सर्वनाम का सबसे अच्छा विकल्प है।

Options :

1. ✓ (हम) सब घूमने जा रहे हैं।
2. * (तुम) अपना काम करो।
3. * (उनका) कुछ भरोसा नहीं ।
4. * (यह) गलत होगा ।

Question Number : 180 Question Id : 54592742197 Question Type : MCQ Option Shuffling : Yes

Correct Marks : 1 Wrong Marks : 0.25

निम्नलिखित प्रश्न में, चार विकल्पों में से, उस विकल्प का चयन करें जो दिए गए वाक्य के काल के भेद का सही विकल्प हो।

वर्षा हो तो गरमी कम हो।

Options :

1. * हेतुहेतु मद भूतकाल
2. * आसन्न भूतकाल
3. * अपूर्ण भूतकाल
4. ✓ हेतुहेतुमद् भविष्यत् काल

Question Number : 180 Question Id : 54592742197 Question Type : MCQ Option Shuffling : Yes

Correct Marks : 1 Wrong Marks : 0.25

निम्नलिखित प्रश्न में, चार विकल्पों में से, उस विकल्प का चयन करें जो दिए गए वाक्य के काल के भेद का सही विकल्प हो।

वर्षा हो तो गरमी कम हो।

Options :

1. * हेतुहेतु मद भूतकाल

2. * आसन्न भूतकाल
3. * अपूर्ण भूतकाल
4. ✓ हेतुहेतुमद भविष्यत् काल

General Hindi2

Group Number :	10
Group Id :	5459272090
Group Maximum Duration :	0
Group Minimum Duration :	120
Show Attended Group? :	No
Edit Attended Group? :	No
Break time:	0
Group Marks:	20
Is this Group for Examiner? :	No
Revisit allowed for group Instructions? :	Yes
Maximum Instruction Time:	0
Minimum Instruction Time:	0

General Hindi2

Section Id :	5459272090
Section Number :	1
Section type :	Online
Mandatory or Optional:	Mandatory
Number of Questions:	16
Number of Questions to be attempted:	16
Section Marks:	20

Sub-Section Number:	1
Sub-Section Id:	5459272507
Question Shuffling Allowed :	Yes

Question Number : 181 Question Id : 54592742198 Question Type : MCQ Option Shuffling : Yes
Correct Marks : 1 Wrong Marks : 0.25

निम्नलिखित प्रश्न में, चार विकल्पों में से, उस विकल्प का चयन करें जो दिए गए वाक्य के लिए वृत्ति के भेद का सबसे अच्छा विकल्प है।

ज़रा इधर आइए।

Options :

1. * संभावनार्थ
2. * संदेहार्थ
3. * निश्चयार्थ
4. ✓ विध्यर्थ

Question Number : 181 Question Id : 54592742198 Question Type : MCQ Option Shuffling : Yes
Correct Marks : 1 Wrong Marks : 0.25

निम्नलिखित प्रश्न में, चार विकल्पों में से, उस विकल्प का चयन करें जो दिए गए वाक्य के लिए वृत्ति के भेद का सबसे अच्छा विकल्प है।

ज़रा इधर आइए।

Options :

1. * संभावनार्थ
2. * संदेहार्थ
3. * निश्चयार्थ
4. ✓ विध्यर्थ

Question Number : 182 Question Id : 54592742199 Question Type : MCQ Option Shuffling : Yes
Correct Marks : 1 Wrong Marks : 0.25

निम्नलिखित प्रश्न में, चार विकल्पों में से, उस विकल्प का चयन करें जो दिए गए वाक्य के लिए पक्ष के भेद का सबसे अच्छा विकल्प है।

अब जनता को उनका हक मिलने लगा है!

Options :

1. * सातप्यबोधक
2. * नित्यताद्योतक
3. * प्रगतिद्योतक
4. ✓ आरंभद्योतक

Question Number : 182 Question Id : 54592742199 Question Type : MCQ Option Shuffling : Yes
Correct Marks : 1 Wrong Marks : 0.25

निम्नलिखित प्रश्न में, चार विकल्पों में से, उस विकल्प का चयन करें जो दिए गए वाक्य के लिए पक्ष के भेद का सबसे अच्छा विकल्प है।

अब जनता को उनका हक मिलने लगा है!

Options :

1. * सातप्यबोधक
2. * नित्यताद्योतक
3. * प्रगतिद्योतक
4. ✓ आरंभद्योतक

Question Number : 183 Question Id : 54592742200 Question Type : MCQ Option Shuffling : Yes

Correct Marks : 1 Wrong Marks : 0.25

निम्न विकल्पों में से निर्देशानुसार वाच्य परिवर्तन का विकल्प चुनिए।

मैंने पत्र लिखा (कर्मवाच्य)

Options :

1. * मैं पत्र लिखा
2. * पत्र मुझसे लिखा गया
3. ✓ मुझसे पत्र लिखा गया
4. * लिखा गया पत्र मुझसे

Question Number : 183 Question Id : 54592742200 Question Type : MCQ Option Shuffling : Yes

Correct Marks : 1 Wrong Marks : 0.25

निम्न विकल्पों में से निर्देशानुसार वाच्य परिवर्तन का विकल्प चुनिए।

मैंने पत्र लिखा (कर्मवाच्य)

Options :

1. * मैं पत्र लिखा
2. * पत्र मुझसे लिखा गया

3. ✓ मुझसे पत्र लिखा गया

4. ✘ लिखा गया पत्र मुझसे

Question Number : 184 Question Id : 54592742201 Question Type : MCQ Option Shuffling : Yes

Correct Marks : 1 Wrong Marks : 0.25

निम्नलिखित प्रश्न में, चार विकल्पों में से, उस विकल्प का चयन करें जो सही वाक्य भेद का विकल्प हो।

अच्छे विद्यार्थी सफल होते हैं।

Options :

1. ✘ मिश्र वाक्य

2. ✘ संयुक्त वाक्य

3. ✘ निषेधवाचक वाक्य

4. ✓ सरल वाक्य

Question Number : 184 Question Id : 54592742201 Question Type : MCQ Option Shuffling : Yes

Correct Marks : 1 Wrong Marks : 0.25

निम्नलिखित प्रश्न में, चार विकल्पों में से, उस विकल्प का चयन करें जो सही वाक्य भेद का विकल्प हो।

अच्छे विद्यार्थी सफल होते हैं।

Options :

1. ✘ मिश्र वाक्य

2. ✘ संयुक्त वाक्य

3. ✘ निषेधवाचक वाक्य

4. ✓ सरल वाक्य

Question Number : 185 Question Id : 54592742202 Question Type : MCQ Option Shuffling : Yes

Correct Marks : 1 Wrong Marks : 0.25

निम्नलिखित प्रश्न में, चार विकल्पों में से, उस विकल्प का चयन करें जो सही वाक्य भेद का विकल्प हो।

चोर के पकड़े जाने से सब प्रसन्न हो गए।

Options :

1. ✓ सरल वाक्य
2. ✗ संयुक्त वाक्य
3. ✗ निषेधवाचक वाक्य
4. ✗ मिश्र वाक्य

Question Number : 185 Question Id : 54592742202 Question Type : MCQ Option Shuffling : Yes

Correct Marks : 1 Wrong Marks : 0.25

निम्नलिखित प्रश्न में, चार विकल्पों में से, उस विकल्प का चयन करें जो सही वाक्य भेद का विकल्प हो।

चोर के पकड़े जाने से सब प्रसन्न हो गए।

Options :

1. ✓ सरल वाक्य
2. ✗ संयुक्त वाक्य
3. ✗ निषेधवाचक वाक्य
4. ✗ मिश्र वाक्य

Question Number : 186 Question Id : 54592742203 Question Type : MCQ Option Shuffling : Yes

Correct Marks : 1 Wrong Marks : 0.25

निम्नलिखित प्रश्न में, चार विकल्पों में से, उस विकल्प का चयन करें जो सही वाक्य भेद का विकल्प हो।

दुल्हे के आते ही कार्यक्रम शुरू हुआ।

Options :

1. ✓ सरल वाक्य

2. * संयुक्त वाक्य

3. * निषेधवाचक वाक्य

4. * मिश्र वाक्य

Question Number : 186 Question Id : 54592742203 Question Type : MCQ Option Shuffling : Yes

Correct Marks : 1 Wrong Marks : 0.25

निम्नलिखित प्रश्न में, चार विकल्पों में से, उस विकल्प का चयन करें जो सही वाक्य भेद का विकल्प हो।

दुल्हे के आते ही कार्यक्रम शुरू हुआ।

Options :

1. ✓ सरल वाक्य

2. * संयुक्त वाक्य

3. * निषेधवाचक वाक्य

4. * मिश्र वाक्य

Question Number : 187 Question Id : 54592742204 Question Type : MCQ Option Shuffling : Yes

Correct Marks : 1 Wrong Marks : 0.25

निम्नलिखित प्रश्न में, चार विकल्पों में से, उस विकल्प का चयन करें जो शुद्ध वाक्य का सबसे अच्छा विकल्प है।

Options :

1. ✓ मुझे गाय का शुद्ध दूध चाहिए

2. * मुझे शुद्ध गाय का दूध चाहिए

3. * दूध चाहिए मुझे शुद्ध गाय का

4. * गाय का शुद्ध चाहिए दूध मुझे

Question Number : 187 Question Id : 54592742204 Question Type : MCQ Option Shuffling : Yes

Correct Marks : 1 Wrong Marks : 0.25

निम्नलिखित प्रश्न में, चार विकल्पों में से, उस विकल्प का चयन करें जो शुद्ध वाक्य का सबसे अच्छा विकल्प है।

Options :

1. ✓ मुझे गाय का शुद्ध दूध चाहिए
2. * मुझे शुद्ध गाय का दूध चाहिए
3. * दूध चाहिए मुझे शुद्ध गाय का
4. * गाय का शुद्ध चाहिए दूध मुझे

Question Number : 188 Question Id : 54592742205 Question Type : MCQ Option Shuffling : Yes
Correct Marks : 1 Wrong Marks : 0.25

निम्नलिखित प्रश्न में, चार विकल्पों में से, उस विकल्प का चयन करें जो विराम चिह्न युक्त वाक्य का सही विकल्प हो।

Options :

1. * "सदैव आगे बढ़ते रहो; रुकना हारने का नाम है।"
2. ✓ सदैव आगे बढ़ते रहो; रुकना हारने का नाम है।
3. * सदैव आगे बढ़ते रहो- रुकना हारने का नाम है।
4. * सदैव आगे बढ़ते रहो; रुकना हारने का नाम है!

Question Number : 188 Question Id : 54592742205 Question Type : MCQ Option Shuffling : Yes
Correct Marks : 1 Wrong Marks : 0.25

निम्नलिखित प्रश्न में, चार विकल्पों में से, उस विकल्प का चयन करें जो विराम चिह्न युक्त वाक्य का सही विकल्प हो।

Options :

1. * "सदैव आगे बढ़ते रहो; रुकना हारने का नाम है।"
2. ✓ सदैव आगे बढ़ते रहो; रुकना हारने का नाम है।
3. * सदैव आगे बढ़ते रहो- रुकना हारने का नाम है।
4. * सदैव आगे बढ़ते रहो; रुकना हारने का नाम है!

Question Number : 189 Question Id : 54592742206 Question Type : MCQ Option Shuffling : Yes
Correct Marks : 1 Wrong Marks : 0.25

निम्नलिखित प्रश्न में, चार विकल्पों में से, उस विकल्प का चयन करें जो विराम चिह्न युक्त वाक्य का सही विकल्प हो।

Options :

1. * नहीं मैं नहीं चल सकता। हाँ तुम जाना चाहते हो तो जाओ।

2. * नहीं, "मैं नहीं चल सकता।" हाँ, तुम जाना चाहते हो तो जाओ।

3. ✓ नहीं, मैं नहीं चल सकता। हाँ, तुम जाना चाहते हो तो जाओ।

4. * नहीं, मैं नहीं चल सकता; हाँ, तुम जाना चाहते हो तो जाओ।

Question Number : 189 Question Id : 54592742206 Question Type : MCQ Option Shuffling : Yes

Correct Marks : 1 Wrong Marks : 0.25

निम्नलिखित प्रश्न में, चार विकल्पों में से, उस विकल्प का चयन करें जो विराम चिह्न युक्त वाक्य का सही विकल्प हो।

Options :

1. * नहीं मैं नहीं चल सकता। हाँ तुम जाना चाहते हो तो जाओ।

2. * नहीं, "मैं नहीं चल सकता।" हाँ, तुम जाना चाहते हो तो जाओ।

3. ✓ नहीं, मैं नहीं चल सकता। हाँ, तुम जाना चाहते हो तो जाओ।

4. * नहीं, मैं नहीं चल सकता; हाँ, तुम जाना चाहते हो तो जाओ।

Question Number : 190 Question Id : 54592742207 Question Type : MCQ Option Shuffling : Yes

Correct Marks : 1 Wrong Marks : 0.25

निम्नलिखित प्रश्न में, चार विकल्पों में से, उस विकल्प का चयन करें जो विराम चिह्न युक्त वाक्य का सही विकल्प हो।

Options :

1. * पिताजी ने कहा - कल हम घूमने चलेंगे।

2. * पिताजी ने कहा ; कल हम घूमने चलेंगे।

3. ✓ पिताजी ने कहा, " कल हम घूमने चलेंगे।"

4. * 'पिताजी ने कहा' कल हम घूमने चलेंगे।

Question Number : 190 Question Id : 54592742207 Question Type : MCQ Option Shuffling : Yes

Correct Marks : 1 Wrong Marks : 0.25

निम्नलिखित प्रश्न में, चार विकल्पों में से, उस विकल्प का चयन करें जो विराम चिह्न युक्त वाक्य का सही विकल्प हो।

Options :

1. * पिताजी ने कहा - कल हम घूमने चलेंगे।

2. * पिताजी ने कहा ; कल हम घूमने चलेंगे।

3. ✓ पिताजी ने कहा, " कल हम घूमने चलेंगे।"

4. * 'पिताजी ने कहा' कल हम घूमने चलेंगे।

Question Number : 191 Question Id : 54592742208 Question Type : MCQ Option Shuffling : Yes

Correct Marks : 1 Wrong Marks : 0.25

निम्नलिखित प्रश्न में, चार विकल्पों में से, उस विकल्प का चयन करें जो दिए गए मुहावरे के लिए सही अर्थ वाला विकल्प है।

आँखें फेर लेना

Options :

1. * देखने के लिए तरसना

2. * अति प्रिय

3. ✓ उदासीन हो जाना

4. * दिल्लगी करना

Question Number : 191 Question Id : 54592742208 Question Type : MCQ Option Shuffling : Yes

Correct Marks : 1 Wrong Marks : 0.25

निम्नलिखित प्रश्न में, चार विकल्पों में से, उस विकल्प का चयन करें जो दिए गए मुहावरे के लिए सही अर्थ वाला विकल्प है।

आँखें फेर लेना

Options :

1. * देखने के लिए तरसना

2. * अति प्रिय

3. ✓ उदासीन हो जाना

4. * दिल्लगी करना

Question Number : 192 Question Id : 54592742209 Question Type : MCQ Option Shuffling : Yes

Correct Marks : 1 Wrong Marks : 0.25

निम्नलिखित प्रश्न में, चार विकल्पों में से, उस विकल्प का चयन करें जो दिए गए मुहावरे के लिए सही अर्थ वाला विकल्प है।

खटाई में पड़ना

Options :

1. * पसंद ना आना
2. * कठोर कार्य
3. ✓ अनिश्चित रहना
4. * असर न होना

Question Number : 192 Question Id : 54592742209 Question Type : MCQ Option Shuffling : Yes

Correct Marks : 1 Wrong Marks : 0.25

निम्नलिखित प्रश्न में, चार विकल्पों में से, उस विकल्प का चयन करें जो दिए गए मुहावरे के लिए सही अर्थ वाला विकल्प है।

खटाई में पड़ना

Options :

1. * पसंद ना आना
2. * कठोर कार्य
3. ✓ अनिश्चित रहना
4. * असर न होना

Question Number : 193 Question Id : 54592742210 Question Type : MCQ Option Shuffling : Yes

Correct Marks : 1 Wrong Marks : 0.25

निम्नलिखित प्रश्न में, चार विकल्पों में से, उस विकल्प का चयन करें जो दिए गए मुहावरे के लिए सही अर्थ वाला विकल्प है।

घोड़े पर सवार होना

Options :

1. * घूमने जाना

2. * निश्चिन्त होना
3. * खुशियाँ मनाना
4. ✓ शीघ्रता में होना

Question Number : 193 Question Id : 54592742210 Question Type : MCQ Option Shuffling : Yes
Correct Marks : 1 Wrong Marks : 0.25

निम्नलिखित प्रश्न में, चार विकल्पों में से, उस विकल्प का चयन करें जो दिए गए मुहावरे के लिए सही अर्थ वाला विकल्प है।

घोड़े पर सवार होना

Options :

1. * घूमने जाना
2. * निश्चिन्त होना
3. * खुशियाँ मनाना
4. ✓ शीघ्रता में होना

Question Number : 194 Question Id : 54592742211 Question Type : MCQ Option Shuffling : Yes
Correct Marks : 1 Wrong Marks : 0.25

निम्नलिखित प्रश्न में, चार विकल्पों में से, उस सही विकल्प का चयन करें जो दी गई लोकोक्ति के लिए सही अर्थ वाला विकल्प है।

मुल्ला की दौड़ मस्जिद तक

Options :

1. ✓ जिसकी जीतनी क्षमता हो, वह प्रयत्न भी उतना करेगा
2. * सीमा में रहना
3. * तीर्थ के लिए जाना
4. * असहाय होना

Question Number : 194 Question Id : 54592742211 Question Type : MCQ Option Shuffling : Yes
Correct Marks : 1 Wrong Marks : 0.25

निम्नलिखित प्रश्न में, चार विकल्पों में से, उस सही विकल्प का चयन करें जो दी गई लोकोक्ति के लिए सही अर्थ वाला विकल्प है।

मुल्ला की दौड़ मस्जिद तक

Options :

1. ✓ जिसकी जीतनी क्षमता हो, वह प्रयत्न भी उतना करेगा
2. * सीमा में रहना
3. * तीर्थ के लिए जाना
4. * असहाय होना

Question Number : 195 Question Id : 54592742212 Question Type : MCQ Option Shuffling : Yes

Correct Marks : 1 Wrong Marks : 0.25

निम्नलिखित प्रश्न में, चार विकल्पों में से, उस विकल्प का चयन करें जो दी गई लोकोक्ति के लिए सही अर्थ वाला विकल्प है।

जैसे नागनाथ, वैसे साँपनाथ

Options :

1. * जान-बूझकर पाप करना
2. ✓ एक जैसी दुष्ट प्रवृत्ति वाले
3. * सभी एक समान
4. * सबसे पृथक और अनोखा

Question Number : 195 Question Id : 54592742212 Question Type : MCQ Option Shuffling : Yes

Correct Marks : 1 Wrong Marks : 0.25

निम्नलिखित प्रश्न में, चार विकल्पों में से, उस विकल्प का चयन करें जो दी गई लोकोक्ति के लिए सही अर्थ वाला विकल्प है।

जैसे नागनाथ, वैसे साँपनाथ

Options :

1. * जान-बूझकर पाप करना
2. ✓ एक जैसी दुष्ट प्रवृत्ति वाले
3. * सभी एक समान
4. * सबसे पृथक और अनोखा

Sub-Section Number: 2
Sub-Section Id: 5459272508
Question Shuffling Allowed : Yes

Question Id : 54592742213 Question Type : COMPREHENSION Sub Question Shuffling Allowed : Yes Group Comprehension Questions : No

Question Numbers : (196 to 200)

Question Label : Comprehension

इस गद्यांश को ध्यानपूर्वक पढ़ें और चार विकल्पों में से प्रत्येक प्रश्न का सर्वोत्तम उत्तर चुनें।

प्राचीन काल में शनि को अमंगलकारी ग्रह समझा जाता था। सुनी-सुनाई बातों के आधार पर लोगों में इस ग्रह के बारे में भ्रांतियाँ फैलती चली गईं। यह ग्रह अत्यंत मंद गति से सूर्य के चारों ओर करीब तीस वर्ष में एक चक्कर पूरा करता है। शनि का दिन हमारे दिन से छोटा होता है। यह अत्यंत ठंडा ग्रह है। इसके वायुमंडल का तापमान शून्य से १५०,°सेंटीग्रेड नीचे रहता है। अतः यहाँ जीवन संभव नहीं है। वैज्ञानिक खोजों के आधार पर शनि के उपग्रहों की संख्या सत्रह हो गई है। इस ग्रह का सबसे बड़ा उपग्रह चंद्र टाइटन है। यह उपग्रह चंद्रमा से काफी बड़ा है। टाइम्स अब्दुत चीज इसका वायुमंडल है। इसके वायुमंडल में मीथेन गैस पर्याप्त मात्रा में है। इस पर मीथेन, पानी की तरह माना जा सकता है। शनि को दूरबीन से देखा जाए तो इसके चारों वलय या घेरे दिखाई देते हैं। इन वलयों या कंकणों से इसकी सुंदरता काफी बढ़ जाती है। इन वलयों की खोज गैलीलियो ने की थी। नई खोजों के आधार पर सौरमंडल के कई ग्रहों के वलयों की खोज हो चुकी है। शनि जितने सुंदर और स्पष्ट वलय किसी ग्रह के नहीं हैं।

Sub questions

Question Number : 196 Question Id : 54592742214 Question Type : MCQ Option Shuffling : Yes
Correct Marks : 1 Wrong Marks : 0.25

शनि की सुंदरता का क्या कारण है?

Options :

1. * इसका सबसे छोटा होना
2. * सबसे अलग होना
3. ✓ इसके चारों ओर चमकते घेरे
4. * सूर्य के समीप होना

Question Number : 197 Question Id : 54592742215 Question Type : MCQ Option Shuffling : Yes

Correct Marks : 1 Wrong Marks : 0.25

शनि पर जीवन क्यों संभव नहीं है?

Options :

1. * वह बहुत ही निर्दयी है
2. * वहां बहुत गरमी है
3. ✓ वहां बहुत ठंड है
4. * वहां बहुत अँधेरा है

Question Number : 198 Question Id : 54592742216 Question Type : MCQ Option Shuffling : Yes

Correct Marks : 1 Wrong Marks : 0.25

मीथेन गैस को किसके सामान माना गया है?

Options :

1. * अग्नि
2. ✓ पानी
3. * मिट्टी
4. * रोशनी

Question Number : 199 Question Id : 54592742217 Question Type : MCQ Option Shuffling : Yes

Correct Marks : 1 Wrong Marks : 0.25

इनमें से कौन - सा वलय का पर्यायवाची नहीं है?

Options :

1. * मंडल
2. * शाखा
3. * घेरा
4. ✓ आभा

Question Number : 200 Question Id : 54592742218 Question Type : MCQ Option Shuffling : Yes

Correct Marks : 1 Wrong Marks : 0.25

इस अनुच्छेद का कोई उपयुक्त शीर्षक-

Options :

1. * अनजान ग्रह
2. ✓ एक सुन्दर ग्रह शनि
3. * विलुप्त ग्रह
4. * भावी ग्रह

Question Id : 54592742213 Question Type : COMPREHENSION Sub Question Shuffling Allowed : Yes Group Comprehension Questions : No

Question Numbers : (196 to 200)

Question Label : Comprehension

इस गद्यांश को ध्यानपूर्वक पढ़ें और चार विकल्पों में से प्रत्येक प्रश्न का सर्वोत्तम उत्तर चुनें।

प्राचीन काल में शनि को अमंगलकारी ग्रह समझा जाता था। सुनी-सुनाई बातों के आधार पर लोगों में इस ग्रह के बारे में भ्रांतियाँ फैलती चली गईं। यह ग्रह अत्यंत मंद गति से सूर्य के चारों ओर करीब तीस वर्ष में एक चक्कर पूरा करता है। शनि का दिन हमारे दिन से छोटा होता है। यह अत्यंत ठंडा ग्रह है। इसके वायुमंडल का तापमान शून्य से १५०, °सेंटीग्रेड नीचे रहता है। अतः यहाँ जीवन संभव नहीं है। वैज्ञानिक खोजों के आधार पर शनि के उपग्रहों की संख्या सत्रह हो गई है। इस ग्रह का सबसे बड़ा उपग्रह चंद्र टाइटन है। यह उपग्रह चंद्रमा से काफी बड़ा है। टाइम्स अद्भुत चीज इसका वायुमंडल है। इसके वायुमंडल में मीथेन गैस पर्याप्त मात्रा में है। इस पर मीथेन, पानी की तरह माना जा सकता है। शनि को दूरबीन से देखा जाए तो इसके चारों वलय या घेरे दिखाई देते हैं। इन वलयों या कंकणों से इसकी सुंदरता काफी बढ़ जाती है। इन वलयों की खोज गैलीलियो ने की थी। नई खोजों के आधार पर सौरमंडल के कई ग्रहों के वलयों की खोज हो चुकी है। शनि जितने सुंदर और स्पष्ट वलय किसी ग्रह के नहीं हैं।

Sub questions

Question Number : 196 Question Id : 54592742214 Question Type : MCQ Option Shuffling : Yes

Correct Marks : 1 Wrong Marks : 0.25

शनि की सुंदरता का क्या कारण है?

Options :

1. * इसका सबसे छोटा होना
2. * सबसे अलग होना
3. ✓ इसके चारों ओर चमकते घेरे

4. * सूर्य के समीप होना

Question Number : 197 Question Id : 54592742215 Question Type : MCQ Option Shuffling : Yes
Correct Marks : 1 Wrong Marks : 0.25

शनि पर जीवन क्यों संभव नहीं है?

Options :

1. * वह बहुत ही निर्दयी है
2. * वहां बहुत गरमी है
3. ✓ वहां बहुत ठंड है
4. * वहां बहुत अँधेरा है

Question Number : 198 Question Id : 54592742216 Question Type : MCQ Option Shuffling : Yes
Correct Marks : 1 Wrong Marks : 0.25

मीथेन गैस को किसके सामान माना गया है?

Options :

1. * अग्नि
2. ✓ पानी
3. * मिट्टी
4. * रोशनी

Question Number : 199 Question Id : 54592742217 Question Type : MCQ Option Shuffling : Yes
Correct Marks : 1 Wrong Marks : 0.25

इनमें से कौन - सा वलय का पर्यायवाची नहीं है?

Options :

1. * मंडल
2. * शाखा
3. * घेरा
4. ✓ आभा

Question Number : 200 Question Id : 54592742218 Question Type : MCQ Option Shuffling : Yes

Correct Marks : 1 Wrong Marks : 0.25

इस अनुच्छेद का कोई उपयुक्त शीर्षक-

Options :

1. ✖ अनजान ग्रह
2. ✔ एक सुन्दर ग्रह शनि
3. ✖ विलुप्त ग्रह
4. ✖ भावी ग्रह