

Education Consultant India Ltd.

Notations :

1.Options shown in **green** color and with ✓ icon are correct.

2.Options shown in **red** color and with ✖ icon are incorrect.

Question Paper Name:	Assistant Director Press and Information 24th September 2019 Shift 1
Subject Name:	Assistant Director Press and Information
Creation Date:	2019-09-24 12:11:18
Duration:	120
Total Marks:	200
Display Marks:	Yes
Share Answer Key With Delivery Engine:	No
Actual Answer Key:	Yes
Calculator:	None
Magnifying Glass Required?:	No
Ruler Required?:	No
Eraser Required?:	No
Scratch Pad Required?:	No
Rough Sketch/Notepad Required?:	No
Protractor Required?:	No
Show Watermark on Console?:	Yes
Highlighter:	No
Auto Save on Console?:	No

Mental Ability

Group Number :	1
Group Id :	5459272221
Group Maximum Duration :	0
Group Minimum Duration :	0
Show Attended Group? :	No
Edit Attended Group? :	No
Break time:	0
Group Marks:	20
Is this Group for Examiner?:	No
Revisit allowed for group Instructions? :	Yes
Maximum Instruction Time:	0
Minimum Instruction Time:	0

Mental Ability

Section Id :	5459272221
Section Number :	1

Section type :	Online
Mandatory or Optional:	Mandatory
Number of Questions:	20
Number of Questions to be attempted:	20
Section Marks:	20

Sub-Section Number:	1
Sub-Section Id:	5459272665
Question Shuffling Allowed :	Yes

Question Number : 1 Question Id : 54592744845 Question Type : MCQ Option Shuffling : Yes
Correct Marks : 1 Wrong Marks : 0.25

Find the missing term in the following letter series.

CF, HK, MP, RU, _____

Options :

1. ✓ WZ
2. ✗ WX
3. ✗ UX
4. ✗ WV

Question Number : 1 Question Id : 54592744845 Question Type : MCQ Option Shuffling : Yes
Correct Marks : 1 Wrong Marks : 0.25

निम्नलिखित अक्षर श्रृंखला में लुप्त पद ज्ञात करें।

CF, HK, MP, RU, _____

Options :

1. ✓ WZ
2. ✗ WX
3. ✗ UX
4. ✗ WV

Question Number : 2 Question Id : 54592744846 Question Type : MCQ Option Shuffling : Yes
Correct Marks : 1 Wrong Marks : 0.25

Find the wrong term in the following series:

QOP, SQR, UST, WUX, YWX

Options :

1. ✖ SQR
2. ✖ UST
3. ✔ WUX
4. ✖ YWX

Question Number : 2 Question Id : 54592744846 Question Type : MCQ Option Shuffling : Yes

Correct Marks : 1 Wrong Marks : 0.25

निम्नलिखित श्रृंखला में गलत पद ज्ञात करें:

QOP, SQR, UST, WUX, YWX

Options :

1. ✖ SQR
2. ✖ UST
3. ✔ WUX
4. ✖ YWX

Question Number : 3 Question Id : 54592744847 Question Type : MCQ Option Shuffling : Yes

Correct Marks : 1 Wrong Marks : 0.25

Out of the given options, three are similar in a certain manner. However, one option is NOT like the other three. Select the option which is different from the rest.

Options :

1. ✖ Wheat
2. ✖ Barley
3. ✖ Oat
4. ✔ Paddy

Question Number : 3 Question Id : 54592744847 Question Type : MCQ Option Shuffling : Yes
Correct Marks : 1 Wrong Marks : 0.25

दिए गए विकल्पों में से, तीन एक निश्चित तरीके से समान हैं।
हालाँकि, एक विकल्प अन्य तीन की तरह नहीं है। उस विकल्प का
चयन करें जो बाकी से अलग है।

Options :

1. ✖ गेहूँ
2. ✖ जौ
3. ✖ जई
4. ✔ धान

Question Number : 4 Question Id : 54592744848 Question Type : MCQ Option Shuffling : Yes
Correct Marks : 1 Wrong Marks : 0.25

Out of the given options, three are similar in a certain
manner. However, one option is NOT like the other three.
Select the option which is different from the rest.

Options :

1. ✖ Animal - Lion
2. ✔ Flower - Seed
3. ✖ Stationery - Pen
4. ✖ Vegetable - Carrot

Question Number : 4 Question Id : 54592744848 Question Type : MCQ Option Shuffling : Yes
Correct Marks : 1 Wrong Marks : 0.25

दिए गए विकल्पों में से, तीन एक निश्चित तरीके से समान हैं।
हालाँकि, एक विकल्प अन्य तीन की तरह नहीं है। उस विकल्प का
चयन करें जो बाकी से अलग है।

Options :

1. ✖ पशु - शेर
2. ✔ फूल - बीज

3. * स्टेशनरी - कलम

4. * सब्जी - गाजर

Question Number : 5 Question Id : 54592744849 Question Type : MCQ Option Shuffling : Yes

Correct Marks : 1 Wrong Marks : 0.25

Select the option that is related to the third term on the same basis as the second term is related to the first term.

DMQ : IRV :: JPW : ?

Options :

1. ✓ OUB

2. * NVC

3. * MXA

4. * PVC

Question Number : 5 Question Id : 54592744849 Question Type : MCQ Option Shuffling : Yes

Correct Marks : 1 Wrong Marks : 0.25

उस विकल्प का चयन करें जो तीसरे पद से उसी प्रकार से संबंधित है जिस प्रकार से पहला पद दूसरे पद से संबंधित है।

DMQ : IRV :: JPW : ?

Options :

1. ✓ OUB

2. * NVC

3. * MXA

4. * PVC

Question Number : 6 Question Id : 54592744850 Question Type : MCQ Option Shuffling : Yes

Correct Marks : 1 Wrong Marks : 0.25

Select the option that is related to the third term on the same basis as the second term is related to the first term.

Dog : Kennel :: Horse : ?

Options :

1. * Stallion
2. * Mare
3. * Colt
4. ✓ Stable

Question Number : 6 Question Id : 54592744850 Question Type : MCQ Option Shuffling : Yes

Correct Marks : 1 Wrong Marks : 0.25

उस विकल्प का चयन करें जो तीसरे पद से उसी प्रकार से संबंधित है जिस प्रकार से पहला पद दूसरे पद से संबंधित है।

कुत्ता: कुत्ताघर :: घोड़ा: ?

Options :

1. * स्टैलियन
2. * घोड़ी
3. * बछेड़ा
4. ✓ अस्तबल

Question Number : 7 Question Id : 54592744851 Question Type : MCQ Option Shuffling : Yes

Correct Marks : 1 Wrong Marks : 0.25

If HORSE is coded as JMTQG, then what is the code for LION?

Options :

1. * MHQL
2. ✓ NGQL
3. * MHRL

4. * NGRK

Question Number : 7 Question Id : 54592744851 Question Type : MCQ Option Shuffling : Yes
Correct Marks : 1 Wrong Marks : 0.25

यदि HORSE को JMTQG के रूप में कोडित किया जाता है, तो LION का कोड क्या है?

Options :

1. * MHQL
2. ✓ NGQL
3. * MHRL
4. * NGRK

Question Number : 8 Question Id : 54592744852 Question Type : MCQ Option Shuffling : Yes
Correct Marks : 1 Wrong Marks : 0.25

Binita, Charlie, Diksha, Eshika and Firoz are sitting on a bench. Charlie is between Diksha and Eshika, Firoz is to the left of Diksha and Firoz is not at the end. Who is to the right of Binita?

Options :

1. * Diksha
2. * Charlie
3. ✓ Firoz
4. * Eshika

Question Number : 8 Question Id : 54592744852 Question Type : MCQ Option Shuffling : Yes
Correct Marks : 1 Wrong Marks : 0.25

बिनीता, चार्ली, दीक्षा, ईशिका और फिरोज एक बेंच पर बैठे हैं। चार्ली दीक्षा और ईशिका के बीच है, फिरोज, दीक्षा के बाएं ओर है और फिरोज छोर पर नहीं है। बिनीता के दाहिनी तरफ कौन है?

Options :

1. * दीक्षा

2. ✖ चार्ली
3. ✔ फिरोज
4. ✖ इशिका

Question Number : 9 Question Id : 54592744853 Question Type : MCQ Option Shuffling : Yes
Correct Marks : 1 Wrong Marks : 0.25

Kavita said to Lalita, "You are my husband's father-in-law's daughter's son-in-law's daughter." How is Lalita related to Kavita, if Kavita has no sibling's?

Options :

1. ✔ Lalita is the granddaughter of Kavita
2. ✖ Lalita is the daughter of Kavita
3. ✖ Lalita is the grandmother of Kavita
4. ✖ Lalita is the mother of Kavita

Question Number : 9 Question Id : 54592744853 Question Type : MCQ Option Shuffling : Yes
Correct Marks : 1 Wrong Marks : 0.25

कविता ने ललिता से कहा, "तुम मेरे पति के ससुर की बेटी के दामाद की बेटी हो।" ललिता, कविता से कैसे संबंधित है, यदि कविता का कोई भाई बहन नहीं है?

Options :

1. ✔ ललिता कविता की पोती/नातिन है
2. ✖ ललिता, कविता की बेटी है
3. ✖ ललिता कविता की दादी/नानी हैं
4. ✖ ललिता कविता की माता है

Question Number : 10 Question Id : 54592744854 Question Type : MCQ Option Shuffling : Yes
Correct Marks : 1 Wrong Marks : 0.25

A statement is given, followed by several assumptions. Read the statement carefully and decide which of the assumptions are implicit in the statement.

Statement : " Conveyance by railways is more convenient and economical in India than travelling by planes"

Assumptions :

I. India is an expensive country and has a very high standard of living.

II. Railway services are cheaper in india.

Options :

1. ✖ Only I is implicit.
2. ✔ Only II is implicit.
3. ✖ Both I and II is implicit.
4. ✖ Neither I nor II is implicit.

Question Number : 10 Question Id : 54592744854 Question Type : MCQ Option Shuffling : Yes

Correct Marks : 1 Wrong Marks : 0.25

एक कथन दिया जाता है, उसके बाद कई धारणाएं दी जाती हैं। उस कथन को ध्यानपूर्वक पढ़ें और निर्णय लें कि कथन में कौन सी धारणा निहित हैं।

कथन: "भारत में विमानों द्वारा यात्रा करने की तुलना में रेलवे द्वारा अधिक सुविधाजनक और किफायती है।"

धारणाएं:

- I. भारत एक महंगा देश है और यहाँ जीवन स्तर बहुत ऊँचा है।
- II. भारत में रेल सेवाएं सस्ती हैं।

Options :

1. ✖ केवल I निहित है।
2. ✔ केवल II निहित है।
3. ✖ I और II दोनों निहित हैं।
4. ✖ न तो I और न ही II निहित है।

Question Number : 11 Question Id : 54592744855 Question Type : MCQ Option Shuffling : Yes
Correct Marks : 1 Wrong Marks : 0.25

In the question two statements are given, followed by three conclusions, I, II and III. You have to consider the statements to be true even if it seems to be at variance from commonly known facts. You have to decide which of the given conclusions, if any, follows from the given statements.

Statement 1 : All cars are buses.

Statement 2 : No bikes are buses.

Conclusion I : All buses are cars.

Conclusion II : Some bikes are cars.

Conclusion III : No cars are bikes.

Options :

1. ✖ Only conclusion II follows
2. ✔ Only conclusion III follows
3. ✖ Only conclusion I and III follows
4. ✖ Only conclusion II and III follows

Question Number : 11 Question Id : 54592744855 Question Type : MCQ Option Shuffling : Yes
Correct Marks : 1 Wrong Marks : 0.25

इस प्रश्न में दो कथन दिए गए हैं, उसके बाद तीन निष्कर्ष I, II और III दिए हैं। आपको इन कथनों को सत्य मानना है, भले ही वे सामान्य रूप से ज्ञात तथ्यों से भिन्न प्रतीत हो रहे हों। आपको यह निर्णय करना होगा कि दिए गए निष्कर्षों में से कौन सा निष्कर्ष, यदि कोई हो, दिए गए कथनों का अनुसरण करता है।

कथन 1: सभी कारें बसें हैं।

कथन 2: कोई भी बाइक बस नहीं है।

निष्कर्ष I: सभी बसें कारें हैं।

निष्कर्ष II: कुछ बाइक कारें हैं।

निष्कर्ष III: कोई भी कार बाइक नहीं है।

Options :

1. ✖ केवल निष्कर्ष II अनुसरण करता है
2. ✔ केवल निष्कर्ष III अनुसरण करता है
3. ✖ केवल निष्कर्ष I और III अनुसरण करते हैं
4. ✖ केवल निष्कर्ष II और III अनुसरण करते हैं

Question Number : 12 Question Id : 54592744856 Question Type : MCQ Option Shuffling : Yes

Correct Marks : 1 Wrong Marks : 0.25

Select the option that is related to the third term on the same basis as the second term is related to the first term.

0.2 : 5 :: 0.4 : ?

Options :

1. ✖ 4
2. ✔ 2.5

3. ✖ 25

4. ✖ 14

Question Number : 12 Question Id : 54592744856 Question Type : MCQ Option Shuffling : Yes

Correct Marks : 1 Wrong Marks : 0.25

उस विकल्प का चयन करें जो तीसरे पद से उसी प्रकार से संबंधित है जिस प्रकार से पहला पद दूसरे पद से संबंधित है।

0.2 : 5 :: 0.4 : ?

Options :

1. ✖ 4

2. ✔ 2.5

3. ✖ 25

4. ✖ 14

Question Number : 13 Question Id : 54592744857 Question Type : MCQ Option Shuffling : Yes

Correct Marks : 1 Wrong Marks : 0.25

Find the missing number in the following number series.

16, 49, 148, 445, _____

Options :

1. ✔ 1336

2. ✖ 1335

3. ✖ 1215

4. ✖ 1225

Question Number : 13 Question Id : 54592744857 Question Type : MCQ Option Shuffling : Yes

Correct Marks : 1 Wrong Marks : 0.25

निम्नलिखित संख्या श्रृंखला में लुप्त संख्या ज्ञात करें।

16, 49, 148, 445, _____

Options :

1. ✓ 1336

2. ✗ 1335

3. ✗ 1215

4. ✗ 1225

Question Number : 14 Question Id : 54592744858 Question Type : MCQ Option Shuffling : Yes

Correct Marks : 1 Wrong Marks : 0.25

Which of the following Venn diagrams best represents the relationship between red things, flowers and roses?

Options :



Question Number : 14 Question Id : 54592744858 Question Type : MCQ Option Shuffling : Yes

Correct Marks : 1 Wrong Marks : 0.25

निम्नलिखित में से कौन सा वेन आरेख लाल चीजों, फूलों और गुलाबों के बीच के संबंध को सबसे अच्छा दर्शाता है?

Options :





Question Number : 15 Question Id : 54592744859 Question Type : MCQ Option Shuffling : Yes
Correct Marks : 1 Wrong Marks : 0.25

A girl starts from her house to visit various places. She walks 13 km east, then turns north and walks 11 km, then turns west and walks 7 km, then turns south and walks 6 km, then turns to her right and walks 6 km. Where is she now with reference to her starting position?

Options :

- 1. ✘ 5 km south
- 2. ✘ 16 km north
- 3. ✘ 16 km south
- 4. ✔ 5 km north

Question Number : 15 Question Id : 54592744859 Question Type : MCQ Option Shuffling : Yes
Correct Marks : 1 Wrong Marks : 0.25

एक लड़की अपने घर से विभिन्न स्थानों पर जाने के लिए निकलती है। वह पूर्व की ओर 13 km चलती है, फिर उत्तर की ओर मुड़ती है और 11 km चलती है, फिर पश्चिम की ओर मुड़ती है और 7 km चलती है, फिर दक्षिण की ओर मुड़ती है और फिर 6 km चलती है, फिर दाएं ओर मुड़ती है और 6 km चलती है। अब वह अपनी प्रारंभिक स्थिति के संदर्भ में कहां है?

Options :

1. ✖ 5 km दक्षिण
2. ✖ 16 km उत्तर
3. ✖ 16 km दक्षिण
4. ✔ 5 km उत्तर

Question Number : 16 Question Id : 54592744860 Question Type : MCQ Option Shuffling : Yes

Correct Marks : 1 Wrong Marks : 0.25

Two men Ankit and Navin start from the same point. Ankit walks 10 km north, then turns east and walks 5 km, then turns to his left and walks 6 km. Navin walks 8 km east, then turns north and walks 15 km, then turns to his left and walks 3 km. Where is Navin standing now with respect to the current position of Ankit?

Options :

1. ✔ 1 km south
2. ✖ 1 km north
3. ✖ 8 km east
4. ✖ 8 km west

Question Number : 16 Question Id : 54592744860 Question Type : MCQ Option Shuffling : Yes

Correct Marks : 1 Wrong Marks : 0.25

दो आदमी अंकित और नवीन एक ही बिंदु से प्रारंभ करते हैं। अंकित उत्तर की ओर 10 km चलता है, फिर पूर्व की ओर मुड़ता है और 5 km चलता है, फिर अपनी बाएं ओर मुड़ता है और 6 km चलता है। नवीन पूर्व में 8 km चलता है, फिर उत्तर की ओर मुड़ता है और 15 km चलता है, फिर अपनी बाएं ओर मुड़ता है और 3 km चलता है। अंकित की वर्तमान स्थिति के संबंध में नवीन अब कहां खड़ा है?

Options :

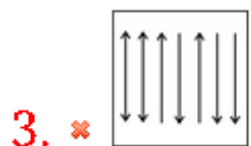
1. ✓ 1 km दक्षिण
2. ✗ 1 km उत्तर
3. ✗ 8 km पूर्व
4. ✗ 8 km पश्चिम

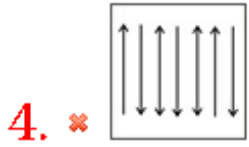
Question Number : 17 Question Id : 54592744861 Question Type : MCQ Option Shuffling : Yes

Correct Marks : 1 Wrong Marks : 0.25

Out of the given options, three are similar in a certain manner. However, one option is NOT like the other three. Select the option which is different from the rest.

Options :

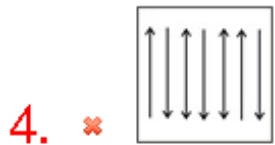
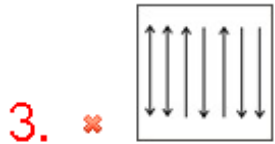




Question Number : 17 Question Id : 54592744861 Question Type : MCQ Option Shuffling : Yes
Correct Marks : 1 Wrong Marks : 0.25

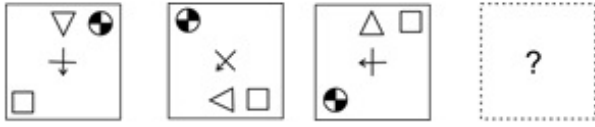
दिए गए विकल्पों में से, तीन एक निश्चित तरीके से समान हैं।
हालाँकि, एक विकल्प अन्य तीन की तरह नहीं है। उस विकल्प का
चयन करें जो बाकी से अलग है।

Options :

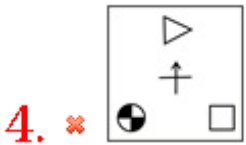
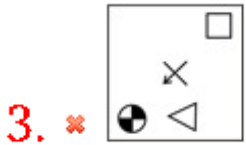
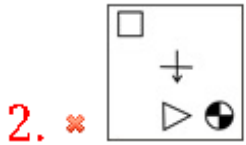
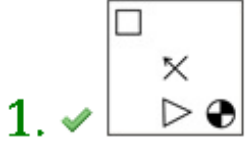


Question Number : 18 Question Id : 54592744862 Question Type : MCQ Option Shuffling : Yes
Correct Marks : 1 Wrong Marks : 0.25

Which of the following answer figure completes the series of the question figure?



Options :



Question Number : 18 Question Id : 54592744862 Question Type : MCQ Option Shuffling : Yes

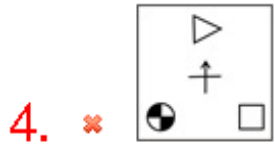
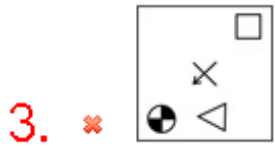
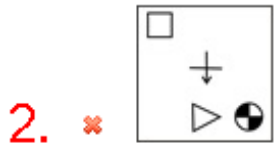
Correct Marks : 1 Wrong Marks : 0.25

निम्नलिखित में से कौन सी उत्तर आकृति प्रश्न आकृति की श्रृंखला को पूरा करती है?



Options :



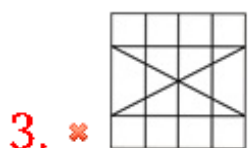
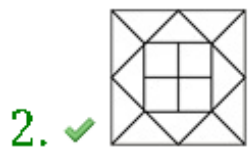
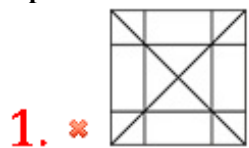


Question Number : 19 Question Id : 54592744863 Question Type : MCQ Option Shuffling : Yes
Correct Marks : 1 Wrong Marks : 0.25

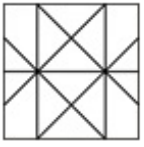
From the given answer figures, select the one in which the question figure is hidden/embedded.



Options :

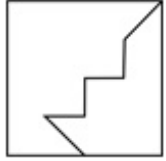


4. ✖



Question Number : 19 Question Id : 54592744863 Question Type : MCQ Option Shuffling : Yes
Correct Marks : 1 Wrong Marks : 0.25

दी गई उत्तर आकृतियों में से, उस एक का चयन करें जिसमें प्रश्न आकृति निहित है।



Options :

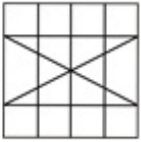
1. ✖



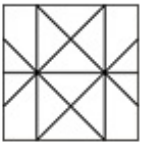
2. ✔



3. ✖

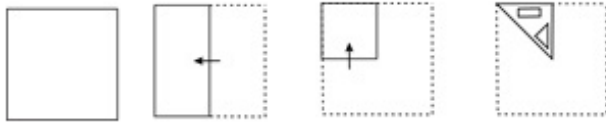


4. ✖

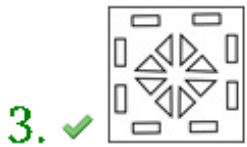


Question Number : 20 Question Id : 54592744864 Question Type : MCQ Option Shuffling : Yes
Correct Marks : 1 Wrong Marks : 0.25

A piece of paper is folded and punched as shown below in the question figures. From the given answer figures, indicate how it will appear when opened.



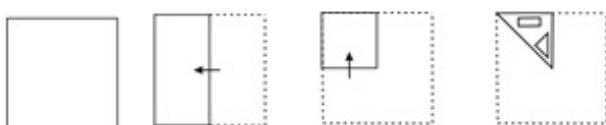
Options :



Question Number : 20 Question Id : 54592744864 Question Type : MCQ Option Shuffling : Yes

Correct Marks : 1 Wrong Marks : 0.25

प्रश्न आकृति में नीचे दिखाए अनुसार पेपर के टुकड़े को मोड़कर उसमें छेद किए गए हैं। दी गई उत्तर आकृतियों से, इंगित करें कि इसे खोले जाने पर यह कैसा दिखाई देगा।



Options :

1. ✘



2. ✘



3. ✔



4. ✘



General Awareness

Group Number :	2
Group Id :	5459272222
Group Maximum Duration :	0
Group Minimum Duration :	0
Show Attended Group? :	No
Edit Attended Group? :	No
Break time:	0
Group Marks:	20
Is this Group for Examiner?:	No
Revisit allowed for group Instructions? :	Yes
Maximum Instruction Time:	0
Minimum Instruction Time:	0

General Awareness

Section Id :	5459272222
Section Number :	1
Section type :	Online
Mandatory or Optional:	Mandatory
Number of Questions:	20
Number of Questions to be attempted:	20

Sub-Section Number: 1
Sub-Section Id: 5459272666
Question Shuffling Allowed : Yes

Question Number : 21 Question Id : 54592744865 Question Type : MCQ Option Shuffling : Yes
Correct Marks : 1 Wrong Marks : 0.25

Margamkali is purely performed by women communities of _____.

Options :

1. * Karnataka
2. ✓ Kerala
3. * Assam
4. * Maharashtra

Question Number : 21 Question Id : 54592744865 Question Type : MCQ Option Shuffling : Yes
Correct Marks : 1 Wrong Marks : 0.25

मरगमकली विशुद्ध रूप से _____ की महिला समुदायों द्वारा किया जाता है।

Options :

1. * कर्नाटक
2. ✓ केरल
3. * असम
4. * महाराष्ट्र

Question Number : 22 Question Id : 54592744866 Question Type : MCQ Option Shuffling : Yes
Correct Marks : 1 Wrong Marks : 0.25

Hemis is a religious festival of _____.

Options :

1. ✓ Ladakh
2. * Nagaland
3. * Sikkim

4. * Meghalaya

Question Number : 22 Question Id : 54592744866 Question Type : MCQ Option Shuffling : Yes
Correct Marks : 1 Wrong Marks : 0.25

हेमिस _____ का एक धार्मिक त्योहार है।

Options :

1. ✓ लद्दाख
2. * नागालैंड
3. * सिक्किम
4. * मेघालय

Question Number : 23 Question Id : 54592744867 Question Type : MCQ Option Shuffling : Yes
Correct Marks : 1 Wrong Marks : 0.25

The bank formed by the efforts of Lala Lajpat Rai is

_____.

Options :

1. * Central Bank of India
2. * Canara Bank
3. ✓ Punjab National Bank
4. * Bank of India

Question Number : 23 Question Id : 54592744867 Question Type : MCQ Option Shuffling : Yes
Correct Marks : 1 Wrong Marks : 0.25

लाला लाजपत राय के प्रयासों से गठित बैंक _____ है।

Options :

1. * सेंट्रल बैंक ऑफ इंडिया
2. * केनरा बैंक
3. ✓ पंजाब नेशनल बैंक
4. * बैंक ऑफ इंडिया

Question Number : 24 Question Id : 54592744868 Question Type : MCQ Option Shuffling : Yes
Correct Marks : 1 Wrong Marks : 0.25

Gross Domestic Product + Net Factor Income from Abroad = _____

Options :

1. ✖ National Income
2. ✖ Net Domestic Product
3. ✖ Net National Product
4. ✔ Gross National Product

Question Number : 24 Question Id : 54592744868 Question Type : MCQ Option Shuffling : Yes

Correct Marks : 1 Wrong Marks : 0.25

सकल घरेलू उत्पाद + विदेश से निवल कारक आय = _____

Options :

1. ✖ राष्ट्रीय आय
2. ✖ निवल देशीय उत्पाद
3. ✖ निवल राष्ट्रीय उत्पाद
4. ✔ सकल राष्ट्रीय उत्पाद

Question Number : 25 Question Id : 54592744869 Question Type : MCQ Option Shuffling : Yes

Correct Marks : 1 Wrong Marks : 0.25

Most meteors burn up in the _____ layer of atmosphere.

Options :

1. ✔ Mesosphere
2. ✖ Thermosphere
3. ✖ Exosphere
4. ✖ Ionosphere

Question Number : 25 Question Id : 54592744869 Question Type : MCQ Option Shuffling : Yes

Correct Marks : 1 Wrong Marks : 0.25

अधिकांश उल्काएं वायुमंडल की _____ परत में जल जाती हैं।

Options :

1. ✔ मध्यमंडल

2. * तापमंडल
3. * बाह्यमंडल
4. * आयनमंडल

Question Number : 26 Question Id : 54592744870 Question Type : MCQ Option Shuffling : Yes
Correct Marks : 1 Wrong Marks : 0.25

_____ is also called as Marsh gas.

Options :

1. * Hydrogen Sulphide
2. * Helium
3. * Radon
4. ✓ Methane

Question Number : 26 Question Id : 54592744870 Question Type : MCQ Option Shuffling : Yes
Correct Marks : 1 Wrong Marks : 0.25

_____ को मार्श गैस भी कहा जाता है।

Options :

1. * हाइड्रोजन सल्फाइड
2. * हिलियम
3. * रेडॉन
4. ✓ मिथेन

Question Number : 27 Question Id : 54592744871 Question Type : MCQ Option Shuffling : Yes
Correct Marks : 1 Wrong Marks : 0.25

Night blindness is also known as _____.

Options :

1. * Hypermetropia
2. ✓ Nyctalopia
3. * Myopia
4. * Alopecia

Question Number : 27 Question Id : 54592744871 Question Type : MCQ Option Shuffling : Yes
Correct Marks : 1 Wrong Marks : 0.25

रतौंधी को _____ के नाम से भी जाना जाता है।

Options :

1. ✖ दीर्घदृष्टि
2. ✔ नायक्टलोपिया
3. ✖ मायोपिया
4. ✖ एलोपेशिया

Question Number : 28 Question Id : 54592744872 Question Type : MCQ Option Shuffling : Yes
Correct Marks : 1 Wrong Marks : 0.25

Which of the following rivers is also known as Dihang river?

Options :

1. ✔ Brahmaputra
2. ✖ Indus
3. ✖ Mahanadi
4. ✖ Ganga

Question Number : 28 Question Id : 54592744872 Question Type : MCQ Option Shuffling : Yes
Correct Marks : 1 Wrong Marks : 0.25

निम्नलिखित में से किस नदी को दिहांग नदी के नाम से भी जाना जाता है?

Options :

1. ✔ ब्रह्मपुत्र
2. ✖ सिंधु
3. ✖ महानदी
4. ✖ गंगा

Question Number : 29 Question Id : 54592744873 Question Type : MCQ Option Shuffling : Yes
Correct Marks : 1 Wrong Marks : 0.25

75% of the world's active volcanoes are located in the _____ Ocean basin.

Options :

1. * Arctic
2. * Atlantic
3. * Indian
4. ✓ Pacific

Question Number : 29 Question Id : 54592744873 Question Type : MCQ Option Shuffling : Yes

Correct Marks : 1 Wrong Marks : 0.25

दुनिया के 75% सक्रिय ज्वालामुखी _____ महासागर के बेसिन में स्थित हैं।

Options :

1. * उत्तरध्रुवीय
2. * अटलांटिक
3. * हिंद
4. ✓ प्रशान्त

Question Number : 30 Question Id : 54592744874 Question Type : MCQ Option Shuffling : Yes

Correct Marks : 1 Wrong Marks : 0.25

Rearing of fish is known as _____.

Options :

1. ✓ Pisciculture
2. * Pomiculture
3. * Sericulture
4. * Viticulture

Question Number : 30 Question Id : 54592744874 Question Type : MCQ Option Shuffling : Yes

Correct Marks : 1 Wrong Marks : 0.25

मछली के पालन को _____ के नाम से जाना जाता है।

Options :

1. ✓ पिसीकल्चर

2. ✖ पोमिकल्चर

3. ✖ सेरीकल्चर

4. ✖ द्राक्षाकृषि

Question Number : 31 Question Id : 54592744875 Question Type : MCQ Option Shuffling : Yes
Correct Marks : 1 Wrong Marks : 0.25

In 1924, Hindustan Republican Association was formed at _____.

Options :

1. ✖ Delhi

2. ✓ Kanpur

3. ✖ Banaras

4. ✖ Kolkata

Question Number : 31 Question Id : 54592744875 Question Type : MCQ Option Shuffling : Yes
Correct Marks : 1 Wrong Marks : 0.25

1924 में, हिंदुस्तान रिपब्लिकन एसोसिएशन का गठन _____ में किया गया था।

Options :

1. ✖ दिल्ली

2. ✓ कानपुर

3. ✖ बनारस

4. ✖ कोलकाता

Question Number : 32 Question Id : 54592744876 Question Type : MCQ Option Shuffling : Yes
Correct Marks : 1 Wrong Marks : 0.25

Ravikirti was the poet in the court of _____.

Options :

1. ✓ Pulakeshin II

2. * Harshavardhana

3. * Chandra gupta II

4. * Kanishka

Question Number : 32 Question Id : 54592744876 Question Type : MCQ Option Shuffling : Yes

Correct Marks : 1 Wrong Marks : 0.25

रविकीर्ति _____ के दरबार में कवि थे।

Options :

1. ✓ पुलकैशिन ॥

2. * हर्षवर्धन

3. * चन्द्रगुप्त ॥

4. * कनिष्क

Question Number : 33 Question Id : 54592744877 Question Type : MCQ Option Shuffling : Yes

Correct Marks : 1 Wrong Marks : 0.25

The _____ age was also called Stone-Copper Age.

Options :

1. * Neolithic

2. ✓ Chalcolithic

3. * Mesolithic

4. * Palaeolithic

Question Number : 33 Question Id : 54592744877 Question Type : MCQ Option Shuffling : Yes

Correct Marks : 1 Wrong Marks : 0.25

_____ युग को पाषाण-ताम्र युग भी कहा जाता था।

Options :

1. * नवपाषाण

2. ✓ ताम्रपाषाण

3. * मध्यपाषाण

4. * पुरापाषाण

Question Number : 34 Question Id : 54592744878 Question Type : MCQ Option Shuffling : Yes

Correct Marks : 1 Wrong Marks : 0.25

Who is the author of Getting India Back on Track?

Options :

1. ✓ Ratan Tata
2. ✗ Natwar Singh
3. ✗ Vinod Rai
4. ✗ Amish Tripathi

Question Number : 34 Question Id : 54592744878 Question Type : MCQ Option Shuffling : Yes

Correct Marks : 1 Wrong Marks : 0.25

गेटिंग इंडिया बैक ऑन ट्रैक के लेखक कौन हैं?

Options :

1. ✓ रतन टाटा
2. ✗ नटवर सिंह
3. ✗ विनोद राय
4. ✗ अमीश त्रिपाठी

Question Number : 35 Question Id : 54592744879 Question Type : MCQ Option Shuffling : Yes

Correct Marks : 1 Wrong Marks : 0.25

Who won the best actor award in Filmfare 2019?

Options :

1. ✗ Ayushman Khurrana
2. ✗ Vicky Kaushal
3. ✓ Ranbir Kapoor
4. ✗ Shahid Kapoor

Question Number : 35 Question Id : 54592744879 Question Type : MCQ Option Shuffling : Yes

Correct Marks : 1 Wrong Marks : 0.25

फिल्मफेयर 2019 में सर्वश्रेष्ठ अभिनेता का पुरस्कार किसने जीता?

Options :

1. * आयुष्मान खुराना
2. * विककी कौशल
3. ✓ रणबीर कपूर
4. * शाहीद कपूर

Question Number : 36 Question Id : 54592744880 Question Type : MCQ Option Shuffling : Yes
Correct Marks : 1 Wrong Marks : 0.25

OECD stands for _____.

Options :

1. * Organisation for Economic Cordination & Development
2. * Organisation for Economic Challenges & Development
3. * Organisation for Economic Challenges & Distance
4. ✓ Organisation for Economic Cooperation & Development

Question Number : 36 Question Id : 54592744880 Question Type : MCQ Option Shuffling : Yes
Correct Marks : 1 Wrong Marks : 0.25

OECD का पूर्ण प्रपत्र _____ है।

Options :

1. * ऑर्गेनाइजेशन फॉर इकोनॉमिक कोऑर्डिनेशन एंड डेवलपमेंट
2. * ऑर्गेनाइजेशन फॉर इकोनॉमिक चैलेंज एंड डेवलपमेंट
3. * ऑर्गेनाइजेशन फॉर इकोनॉमिक चैलेंज एंड डिस्टेंस
4. ✓ ऑर्गेनाइजेशन फॉर इकोनॉमिक कोऑपरेशन एंड डेवलपमेंट

Question Number : 37 Question Id : 54592744881 Question Type : MCQ Option Shuffling : Yes
Correct Marks : 1 Wrong Marks : 0.25

Which of the following amendment increased the duration of Lok Sabha from 5 years to 6 years in case of an emergency?

Options :

1. ✓ 42nd
2. * 40th

3. ✖ 41st

4. ✖ 43rd

Question Number : 37 Question Id : 54592744881 Question Type : MCQ Option Shuffling : Yes

Correct Marks : 1 Wrong Marks : 0.25

निम्नलिखित में से किस संशोधन ने आपातकाल की स्थिति में लोकसभा की अवधि 5 वर्ष से बढ़ाकर 6 वर्ष कर दी?

Options :

1. ✔ 42वें

2. ✖ 40वें

3. ✖ 41वें

4. ✖ 43वें

Question Number : 38 Question Id : 54592744882 Question Type : MCQ Option Shuffling : Yes

Correct Marks : 1 Wrong Marks : 0.25

Article 23 deals with _____.

Options :

1. ✔ Right against Exploitation

2. ✖ Cultural and Educational Rights

3. ✖ Right to Freedom

4. ✖ Right to Freedom of Religion

Question Number : 38 Question Id : 54592744882 Question Type : MCQ Option Shuffling : Yes

Correct Marks : 1 Wrong Marks : 0.25

अनुच्छेद 23 _____ से संबंधित है।

Options :

1. ✔ शोषण के खिलाफ अधिकार

2. ✖ सांस्कृतिक और शैक्षिक अधिकार

3. ✖ स्वतंत्रता का अधिकार

4. ✖ धर्म की स्वतंत्रता का अधिकार

Question Number : 39 Question Id : 54592744883 Question Type : MCQ Option Shuffling : Yes

Correct Marks : 1 Wrong Marks : 0.25

Merdeka Cup is associated with which of the following sports?

Options :

1. ✘ Golf
2. ✘ Badminton
3. ✔ Football
4. ✘ Table Tennis

Question Number : 39 Question Id : 54592744883 Question Type : MCQ Option Shuffling : Yes

Correct Marks : 1 Wrong Marks : 0.25

मर्डेका कप निम्नलिखित में से किस खेल से संबंधित है?

Options :

1. ✘ गोल्फ़
2. ✘ बैडमिंटन
3. ✔ फ़ुटबॉल
4. ✘ टेबल टेनिस

Question Number : 40 Question Id : 54592744884 Question Type : MCQ Option Shuffling : Yes

Correct Marks : 1 Wrong Marks : 0.25

Bajrang Punia won the National Sports award in 2019 for his contribution in the field of _____.

Options :

1. ✔ wrestling
2. ✘ football
3. ✘ hockey
4. ✘ polo

Question Number : 40 Question Id : 54592744884 Question Type : MCQ Option Shuffling : Yes

Correct Marks : 1 Wrong Marks : 0.25

बजरंग पूनिया ने 2019 में _____ के क्षेत्र में उनके योगदान के लिए राष्ट्रीय खेल पुरस्कार जीता।

Options :

1. ✓ कुश्ती
2. ✗ फुटबॉल
3. ✗ हॉकी
4. ✗ पोलो

Arithmetic Ability

Group Number :	3
Group Id :	5459272223
Group Maximum Duration :	0
Group Minimum Duration :	0
Show Attended Group? :	No
Edit Attended Group? :	No
Break time:	0
Group Marks:	20
Is this Group for Examiner? :	No
Revisit allowed for group Instructions? :	Yes
Maximum Instruction Time:	0
Minimum Instruction Time:	0

Arithmetic Ability

Section Id :	5459272223
Section Number :	1
Section type :	Online
Mandatory or Optional:	Mandatory
Number of Questions:	20
Number of Questions to be attempted:	20
Section Marks:	20

Sub-Section Number:	1
Sub-Section Id:	5459272667
Question Shuffling Allowed :	Yes

Question Number : 41 Question Id : 54592744885 Question Type : MCQ Option Shuffling : Yes
Correct Marks : 1 Wrong Marks : 0.25

Simplify: $30 - [24 - \{ 48 \div 6 - 42 \div 7 \}]$

Options :

1. ✖ 32

2. ✔ 8

3. ✖ 29

4. ✖ 10

Question Number : 41 Question Id : 54592744885 Question Type : MCQ Option Shuffling : Yes

Correct Marks : 1 Wrong Marks : 0.25

सरल करें: $30 - [24 - \{ 48 \div 6 - 42 \div 7 \}]$

Options :

1. ✖ 32

2. ✔ 8

3. ✖ 29

4. ✖ 10

Question Number : 42 Question Id : 54592744886 Question Type : MCQ Option Shuffling : Yes

Correct Marks : 1 Wrong Marks : 0.25

Find the LCM and HCF of 4, 24, 36, 44

Options :

1. ✖ LCM = 649, HCF = 2

2. ✖ LCM = 586, HCF = 8

3. ✔ LCM = 792, HCF = 4

4. ✖ LCM = 852, HCF = 6

Question Number : 42 Question Id : 54592744886 Question Type : MCQ Option Shuffling : Yes

Correct Marks : 1 Wrong Marks : 0.25

4, 24, 36, 44 के लघुत्तम समापवर्तक और महत्तम सामपवर्तक ज्ञात करें।

Options :

1. ✖ लघुत्तम समापवर्तक = 649, महत्तम सामपवर्तक = 2

2. ✖ लघुत्तम समापवर्तक = 586, महत्तम समापवर्तक = 8

3. ✔ लघुत्तम समापवर्तक = 792, महत्तम समापवर्तक = 4

4. ✖ लघुत्तम समापवर्तक = 852, महत्तम समापवर्तक = 6

Question Number : 43 Question Id : 54592744887 Question Type : MCQ Option Shuffling : Yes

Correct Marks : 1 Wrong Marks : 0.25

Simplify: $\{(x/12) + (x/24)\} \div (x/12)$

Options :

1. ✔ $3/2$

2. ✖ $2/3$

3. ✖ $12/5$

4. ✖ $5/24$

Question Number : 43 Question Id : 54592744887 Question Type : MCQ Option Shuffling : Yes

Correct Marks : 1 Wrong Marks : 0.25

सरल करे: $\{(x/12) + (x/24)\} \div (x/12)$

Options :

1. ✔ $3/2$

2. ✖ $2/3$

3. ✖ $12/5$

4. ✖ $5/24$

Question Number : 44 Question Id : 54592744888 Question Type : MCQ Option Shuffling : Yes

Correct Marks : 1 Wrong Marks : 0.25

When $(a/b) = (5/3)$ find $\{(a/b) - (b/a)\} \div \{(a/b) + (b/a)\}$

Options :

1. ✖ $17/8$

2. ✖ $7/18$

3. ✔ $8/17$

4. ✖ $18/7$

Question Number : 44 Question Id : 54592744888 Question Type : MCQ Option Shuffling : Yes

Correct Marks : 1 Wrong Marks : 0.25

जब $(a/b) = (5/3)$ तो $\{(a/b) - (b/a)\} \div \{(a/b) + (b/a)\}$ ज्ञात करें।

Options :

1. ✖ 17/8

2. ✖ 7/18

3. ✔ 8/17

4. ✖ 18/7

Question Number : 45 Question Id : 54592744889 Question Type : MCQ Option Shuffling : Yes

Correct Marks : 1 Wrong Marks : 0.25

Divide Rs 17824.75 equally among 185 women. How much does each woman get?

Options :

1. ✖ Rs. 99.50

2. ✔ Rs 96.35

3. ✖ Rs. 97.53

4. ✖ Rs. 94.64

Question Number : 45 Question Id : 54592744889 Question Type : MCQ Option Shuffling : Yes

Correct Marks : 1 Wrong Marks : 0.25

17824.75 रुपए 185 महिलाओं में समान रुपए से बांटे। प्रत्येक महिला को कितने रुपए मिलते हैं?

Options :

1. ✖ 99.50 रुपए

2. ✔ 96.35 रुपए

3. ✖ 97.53 रुपए

4. ✖ 94.64 रुपए

Question Number : 46 Question Id : 54592744890 Question Type : MCQ Option Shuffling : Yes

Correct Marks : 1 Wrong Marks : 0.25

Find the sale price of a ceiling fan that has a list price of Rs. 900 and a discount rate of 10%.

Options :

1. ✖ Rs. 720
2. ✖ Rs. 910
3. ✖ Rs. 890
4. ✔ Rs. 810

Question Number : 46 Question Id : 54592744890 Question Type : MCQ Option Shuffling : Yes

Correct Marks : 1 Wrong Marks : 0.25

सीलिंग के पंखे का बिक्री मूल्य ज्ञात करें, जिसका सूची मूल्य 900 रुपए है और छूट की दर 10% है।

Options :

1. ✖ 720 रुपए
2. ✖ 910 रुपए
3. ✖ 890 रुपए
4. ✔ 810 रुपए

Question Number : 47 Question Id : 54592744891 Question Type : MCQ Option Shuffling : Yes

Correct Marks : 1 Wrong Marks : 0.25

In an election, two candidates received 470 and 962 votes respectively. What percentage of the total votes did the winning candidate get?

Options :

1. ✖ 76.71%
2. ✔ 67.17%
3. ✖ 76.17%
4. ✖ 67.71%

Question Number : 47 Question Id : 54592744891 Question Type : MCQ Option Shuffling : Yes

Correct Marks : 1 Wrong Marks : 0.25

एक चुनाव में, दो उम्मीदवारों को क्रमशः 470 और 962 वोट मिले। जीतने वाले उम्मीदवार को कुल मतों का कितना प्रतिशत मिला?

Options :

1. ✖ 76.71%

2. ✔ 67.17%

3. ✖ 76.17%

4. ✖ 67.71%

Question Number : 48 Question Id : 54592744892 Question Type : MCQ Option Shuffling : Yes

Correct Marks : 1 Wrong Marks : 0.25

The difference between a number and its three fourth is 840. What is 30% of that number?

Options :

1. ✖ 1800

2. ✔ 1008

3. ✖ 1080

4. ✖ 1018

Question Number : 48 Question Id : 54592744892 Question Type : MCQ Option Shuffling : Yes

Correct Marks : 1 Wrong Marks : 0.25

एक संख्या और उसके तीन चौथाई के बीच का अंतर 840 है। उस संख्या का 30% कितना है?

Options :

1. ✖ 1800

2. ✔ 1008

3. ✖ 1080

4. ✖ 1018

Question Number : 49 Question Id : 54592744893 Question Type : MCQ Option Shuffling : Yes

Correct Marks : 1 Wrong Marks : 0.25

Ajay sold a fan for Rs. 1404. Find the cost price if he incurred a loss of 22 %.

Options :

1. * Rs. 1680
2. * Rs. 1750
3. ✓ Rs. 1800
4. * Rs. 1880

Question Number : 49 Question Id : 54592744893 Question Type : MCQ Option Shuffling : Yes

Correct Marks : 1 Wrong Marks : 0.25

अजय ने एक पंखे को 1404 रुपए में बेचा। यदि इसमें उसे 22% की हानि हुई तो लागत मूल्य कितना है।

Options :

1. * 1680 रुपए
2. * 1750 रुपए
3. ✓ 1800 रुपए
4. * 1880 रुपए

Question Number : 50 Question Id : 54592744894 Question Type : MCQ Option Shuffling : Yes

Correct Marks : 1 Wrong Marks : 0.25

Pencils, pens and exercise books in a shop are in the ratio 12:7:3. If there are 252 pencils, the number of exercise books in the shop is _____.

Options :

1. * 36
2. ✓ 63
3. * 82
4. * 28

Question Number : 50 Question Id : 54592744894 Question Type : MCQ Option Shuffling : Yes

Correct Marks : 1 Wrong Marks : 0.25

एक दुकान में पेंसिल, कलम और व्यायाम पुस्तक 12:7:3 के अनुपात में हैं। यदि 252 पेंसिल हैं, तो दुकान में व्यायाम पुस्तकों की संख्या कितनी है?

Options :

1. ✖ 36

2. ✔ 63

3. ✖ 82

4. ✖ 28

Question Number : 51 Question Id : 54592744895 Question Type : MCQ Option Shuffling : Yes

Correct Marks : 1 Wrong Marks : 0.25

The ratio of the angles of a triangle is 4 : 5 : 6. The three angles of a quadrilateral is equal to three angles of this triangle. What is the sum of the largest angle and second smallest angle of the quadrilateral?

Options :

1. ✖ 225 degree

2. ✖ 228 degree

3. ✖ 232 degree

4. ✔ 240 degree

Question Number : 51 Question Id : 54592744895 Question Type : MCQ Option Shuffling : Yes

Correct Marks : 1 Wrong Marks : 0.25

एक त्रिभुज के कोणों का अनुपात 4: 5: 6. है। एक चतुर्भुज के तीन कोण इस त्रिभुज के तीन कोणों के बराबर हैं। चतुर्भुज के सबसे बड़े कोण और दूसरे सबसे छोटे कोण का योग क्या है?

Options :

1. ✖ 225 डिग्री

2. ✖ 228 डिग्री

3. ✖ 232 डिग्री

4. ✔ 240 डिग्री

Question Number : 52 Question Id : 54592744896 Question Type : MCQ Option Shuffling : Yes
Correct Marks : 1 Wrong Marks : 0.25

The difference between the simple interest and compound interest on Rs. 66,000 for one year at 12% per annum reckoned half yearly is _____ .

Options :

1. ✔ Rs. 237.6

2. ✖ Rs 432.1

3. ✖ Rs. 842.9

4. ✖ Rs. 231.4

Question Number : 52 Question Id : 54592744896 Question Type : MCQ Option Shuffling : Yes
Correct Marks : 1 Wrong Marks : 0.25

साधारण ब्याज और चक्रवृद्धि ब्याज के बीच का अंतर 12% प्रति वर्ष की दर से 66,000 रुपए एक वर्ष के लिए है, इसका अर्धवार्षिक है _____ ।

Options :

1. ✔ 237.6 रुपए

2. ✖ 432.1 रुपए

3. ✖ 842.9 रुपए

4. ✖ 231.4 रुपए

Question Number : 53 Question Id : 54592744897 Question Type : MCQ Option Shuffling : Yes
Correct Marks : 1 Wrong Marks : 0.25

Two motor bikes cover the same distance at the speed of 80 and 85 kmph respectively. Find the distance travelled by them if the slower bike takes 1 hour more than the faster bike?

Options :

1. ✖ 980 km
2. ✖ 1150 km
3. ✖ 1240 km
4. ✔ 1360 km

Question Number : 53 Question Id : 54592744897 Question Type : MCQ Option Shuffling : Yes

Correct Marks : 1 Wrong Marks : 0.25

दो मोटर बाइक क्रमशः 80 और 85 kmph की गति से समान दूरी तय करती हैं। उनके द्वारा तय की गई दूरी ज्ञात करें यदि धीमी बाइक तेज बाइक की तुलना में 1 घंटे अधिक समय लेती है?

Options :

1. ✖ 980 km
2. ✖ 1150 km
3. ✖ 1240 km
4. ✔ 1360 km

Question Number : 54 Question Id : 54592744898 Question Type : MCQ Option Shuffling : Yes

Correct Marks : 1 Wrong Marks : 0.25

You drive to the store at 40 kmph and return by the same route at 60 kmph. Discounting the time spent at the store what was your average speed?

Options :

1. ✖ 25 kmph
2. ✖ 60 kmph
3. ✖ 36 kmph

4. ✓ 48 kmph

Question Number : 54 Question Id : 54592744898 Question Type : MCQ Option Shuffling : Yes

Correct Marks : 1 Wrong Marks : 0.25

आप 40 kmph की गति से ड्राइव कर दुकान पर जाते हैं और 60 kmph की दर से उसी मार्ग से वापस लौटते हैं। दुकान में बिताए समय को देखते हुए आपकी औसत गति क्या थी?

Options :

1. ✗ 25 kmph

2. ✗ 60 kmph

3. ✗ 36 kmph

4. ✓ 48 kmph

Question Number : 55 Question Id : 54592744899 Question Type : MCQ Option Shuffling : Yes

Correct Marks : 1 Wrong Marks : 0.25

A can do a piece of work in 10 days, and B can do the same work in 20 days. With the help of C, they finished the work in 4 days. C can do the work in how many days, working alone?

Options :

1. ✗ 5 days

2. ✗ 7 days

3. ✗ 8 days

4. ✓ 10 days

Question Number : 55 Question Id : 54592744899 Question Type : MCQ Option Shuffling : Yes

Correct Marks : 1 Wrong Marks : 0.25

A 10 दिनों में एक काम कर सकता है, और B उसी काम को 20 दिनों में कर सकता है। C की मदद से, उन्होंने 4 दिनों में काम पूरा कर दिया। C अकेले कितने दिनों में काम कर सकता है?

Options :

1. ✖ 5 दिन
2. ✖ 7 दिन
3. ✖ 8 दिन
4. ✔ 10 दिन

Question Number : 56 Question Id : 54592744900 Question Type : MCQ Option Shuffling : Yes
Correct Marks : 1 Wrong Marks : 0.25

The surface area of the cube is 684 sq cm. Its diagonal is how much?

Options :

1. ✖ 5.19 cm
2. ✖ 8.66 cm
3. ✖ 13.86 cm
4. ✔ 18.49 cm

Question Number : 56 Question Id : 54592744900 Question Type : MCQ Option Shuffling : Yes
Correct Marks : 1 Wrong Marks : 0.25

घन का सतही क्षेत्रफल 684 sq cm है। इसका विकर्ण कितना है?

Options :

1. ✖ 5.19 cm
2. ✖ 8.66 cm
3. ✖ 13.86 cm
4. ✔ 18.49 cm

Question Number : 57 Question Id : 54592744901 Question Type : MCQ Option Shuffling : Yes
Correct Marks : 1 Wrong Marks : 0.25

Two solid spheres of radii 5 cm and 7 cm are melted and recast into a cone of height 13 cm. Find the radius of the cone so formed.

Options :

1. ✖ 17 cm

2. ✖ 19 cm

3. ✖ 11 cm

4. ✔ 12 cm

Question Number : 57 Question Id : 54592744901 Question Type : MCQ Option Shuffling : Yes
Correct Marks : 1 Wrong Marks : 0.25

त्रिज्या 5 cm और 7 cm के दो ठोस गोले पिघलाए जाते हैं और 13 cm की ऊंचाई के शंकु में बदल दिए जाते हैं। तो शंकु की त्रिज्या ज्ञात करें।

Options :

1. ✖ 17 cm

2. ✖ 19 cm

3. ✖ 11 cm

4. ✔ 12 cm

Question Number : 58 Question Id : 54592744902 Question Type : MCQ Option Shuffling : Yes
Correct Marks : 1 Wrong Marks : 0.25

The following table shows number of items sold by three persons Ram, Shyam, Shivam on 4 days of the week. Number of items sold by Shivam on Sunday is what percent of number of items sold by Shyam on Tuesday?

	Ram	Shyam	Shivam
Saturday	35	30	15
Sunday	30	45	38
Monday	15	10	5
Tuesday	25	35	32

Options :

1. ✔ 108.6%

2. ✖ 118.6%

3. ✖ 128.6%

4. ✖ 138.6%

Question Number : 58 Question Id : 54592744902 Question Type : MCQ Option Shuffling : Yes
Correct Marks : 1 Wrong Marks : 0.25

निम्नलिखित तालिका सप्ताह के 4 दिनों में तीन व्यक्तियों राम, श्याम, शिवम द्वारा बेची गई वस्तुओं की संख्या को दर्शाती है। रविवार को शिवम द्वारा बेची गई वस्तुओं की संख्या मंगलवार को श्याम द्वारा बेची गई वस्तुओं का कितना प्रतिशत है?

	राम	श्याम	शिवम
शनिवार	35	30	15
रविवार	30	45	38
सोमवार	15	10	5
मंगलवार	25	35	32

Options :

1. ✔ 108.6%

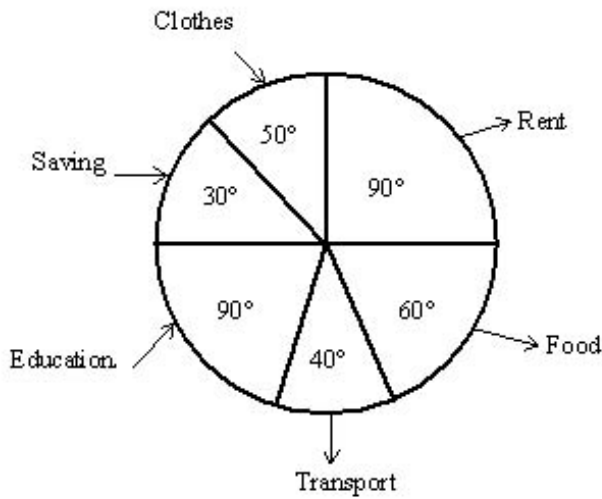
2. ✖ 118.6%

3. ✖ 128.6%

4. ✖ 138.6%

Question Number : 59 Question Id : 54592744903 Question Type : MCQ Option Shuffling : Yes
Correct Marks : 1 Wrong Marks : 0.25

The following Pie-chart shows the distribution of expenses (in degrees) of a family during 2019 Total Income of the family in 2019 is Rs. 1080.



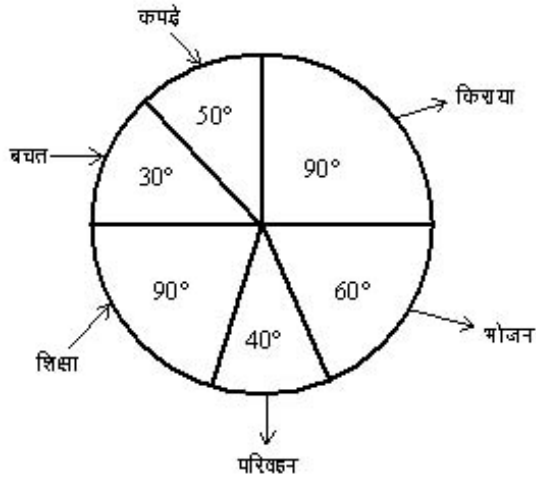
How much they spend (in Rs.) on clothes?

Options :

1. ✓ 150
2. ✗ 200
3. ✗ 180
4. ✗ 240

Question Number : 59 Question Id : 54592744903 Question Type : MCQ Option Shuffling : Yes
Correct Marks : 1 Wrong Marks : 0.25

नीचे दिए गए पार्इ चार्ट में वर्ष 2019 के दौरान एक परिवार के व्यय का विवरण (डिग्री. में) को दर्शाया गया है। वर्ष 2019 में परिवार की कुल आय 1080 रुपये है।



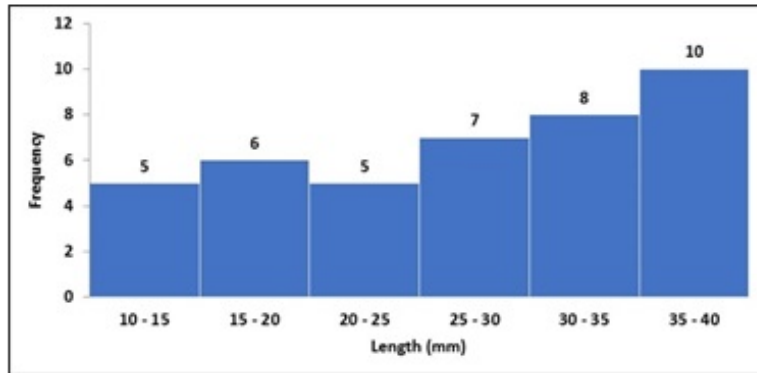
कपड़ों पर किया गया खर्च ज्ञात करें?

Options :

1. ✓ 150
2. ✗ 200
3. ✗ 180
4. ✗ 240

Question Number : 60 Question Id : 54592744904 Question Type : MCQ Option Shuffling : Yes
Correct Marks : 1 Wrong Marks : 0.25

A school carried out an experiment to measure the lengths of its classrooms. The results of the experiment are shown in the histogram. The length of each classroom was measured to the nearest meter. How many classrooms were less than 20 meters in length?



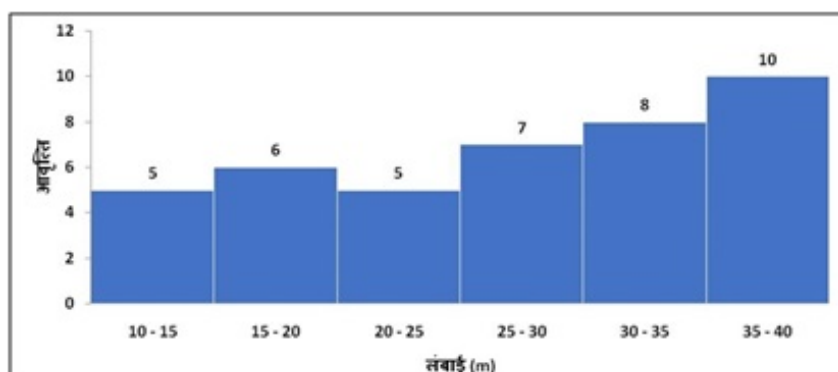
Options :

1. ✖ 5
2. ✖ 9
3. ✖ 10
4. ✔ 11

Question Number : 60 Question Id : 54592744904 Question Type : MCQ Option Shuffling : Yes

Correct Marks : 1 Wrong Marks : 0.25

एक विद्यालय ने अपनी कक्षाओं की लंबाई मापने के लिए एक प्रयोग किया। प्रयोग के परिणाम आयतचित्र में दर्शाए गए हैं। प्रत्येक कक्षा की लंबाई को निकटतम मीटर तक मापा गया था। 20 मीटर से कम लंबाई वाले कितने कक्षा थे?



Options :

1. ✘ 5

2. ✘ 9

3. ✘ 10

4. ✔ 11

General English

Group Number :	4
Group Id :	5459272224
Group Maximum Duration :	0
Group Minimum Duration :	0
Show Attended Group? :	No
Edit Attended Group? :	No
Break time:	0
Group Marks:	20
Is this Group for Examiner?:	No
Revisit allowed for group Instructions? :	Yes
Maximum Instruction Time:	0
Minimum Instruction Time:	0

General English

Section Id :	5459272224
Section Number :	1
Section type :	Online
Mandatory or Optional:	Mandatory
Number of Questions:	16
Number of Questions to be attempted:	16
Section Marks:	20

Sub-Section Number:	1
Sub-Section Id:	5459272668
Question Shuffling Allowed :	Yes

Question Number : 61 Question Id : 54592744905 Question Type : MCQ Option Shuffling : Yes
Correct Marks : 1 Wrong Marks : 0.25

The sentence below has been divided into three parts. Select the part of the sentence that has an error. If the sentence has no error, select the option 'No Error'.

(A) If I had been/ (B) hungry I will have/ (C) ate the burger./
(D) No error

Options :

1. ✘ A

2. ✔ B

3. ✘ C

4. ✘ D

Question Number : 61 Question Id : 54592744905 Question Type : MCQ Option Shuffling : Yes
Correct Marks : 1 Wrong Marks : 0.25

The sentence below has been divided into three parts. Select the part of the sentence that has an error. If the sentence has no error, select the option 'No Error'.

(A) If I had been/ (B) hungry I will have/ (C) ate the burger./ (D) No error

Options :

1. ✘ A

2. ✔ B

3. ✘ C

4. ✘ D

Question Number : 62 Question Id : 54592744906 Question Type : MCQ Option Shuffling : Yes
Correct Marks : 1 Wrong Marks : 0.25

The sentence below has been divided into three parts. Select the part of the sentence that has an error. If the sentence has no error, select the option 'No Error'.

(A) It takes him/ (B) a hour to reach/ (C) the office./ (D) No error

Options :

1. ✖ A

2. ✔ B

3. ✖ C

4. ✖ D

Question Number : 62 Question Id : 54592744906 Question Type : MCQ Option Shuffling : Yes
Correct Marks : 1 Wrong Marks : 0.25

The sentence below has been divided into three parts. Select the part of the sentence that has an error. If the sentence has no error, select the option 'No Error'.

(A) It takes him/ (B) a hour to reach/ (C) the office./ (D) No error

Options :

1. ✖ A

2. ✔ B

3. ✖ C

4. ✖ D

Question Number : 63 Question Id : 54592744907 Question Type : MCQ Option Shuffling : Yes
Correct Marks : 1 Wrong Marks : 0.25

Select the word segment that substitutes (replaces) the bracketed word segment correctly and completes the sentence meaningfully. Select the option 'no correction required' if the sentence is correct as given.

She (break of) with a little shudder.

Options :

1. ✖ broke of
2. ✖ breaking off
3. ✔ broke off
4. ✖ No improvement

Question Number : 63 Question Id : 54592744907 Question Type : MCQ Option Shuffling : Yes
Correct Marks : 1 Wrong Marks : 0.25

Select the word segment that substitutes (replaces) the bracketed word segment correctly and completes the sentence meaningfully. Select the option 'no correction required' if the sentence is correct as given.

She (break of) with a little shudder.

Options :

1. ✖ broke of
2. ✖ breaking off
3. ✔ broke off
4. ✖ No improvement

Question Number : 64 Question Id : 54592744908 Question Type : MCQ Option Shuffling : Yes
Correct Marks : 1 Wrong Marks : 0.25

Select the word segment that substitutes (replaces) the bracketed word segment correctly and completes the sentence meaningfully. Select the option 'no correction required' if the sentence is correct as given.

I was told that oil (is lightest) than water.

Options :

1. ✓ is lighter
2. ✗ is light
3. ✗ are light
4. ✗ No improvement

Question Number : 64 Question Id : 54592744908 Question Type : MCQ Option Shuffling : Yes
Correct Marks : 1 Wrong Marks : 0.25

Select the word segment that substitutes (replaces) the bracketed word segment correctly and completes the sentence meaningfully. Select the option 'no correction required' if the sentence is correct as given.

I was told that oil (is lightest) than water.

Options :

1. ✓ is lighter
2. ✗ is light
3. ✗ are light
4. ✗ No improvement

Question Number : 65 Question Id : 54592744909 Question Type : MCQ Option Shuffling : Yes
Correct Marks : 1 Wrong Marks : 0.25

Select the most appropriate word that fills in the blank correctly and completes the sentence meaningfully.

It had been_____continuously for the past two days.

Options :

1. ✖ snows
2. ✔ snowing
3. ✖ was snowing
4. ✖ is snowing

Question Number : 65 Question Id : 54592744909 Question Type : MCQ Option Shuffling : Yes
Correct Marks : 1 Wrong Marks : 0.25

Select the most appropriate word that fills in the blank correctly and completes the sentence meaningfully.

It had been_____continuously for the past two days.

Options :

1. ✖ snows
2. ✔ snowing
3. ✖ was snowing
4. ✖ is snowing

Question Number : 66 Question Id : 54592744910 Question Type : MCQ Option Shuffling : Yes
Correct Marks : 1 Wrong Marks : 0.25

Select the most appropriate word that fills in the blank correctly and completes the sentence meaningfully.

On Sports Day, the field is _____ with banners.

Options :

1. ✖ full

2. ✖ fill

3. ✖ decorating

4. ✔ decorated

Question Number : 66 Question Id : 54592744910 Question Type : MCQ Option Shuffling : Yes
Correct Marks : 1 Wrong Marks : 0.25

Select the most appropriate word that fills in the blank correctly and completes the sentence meaningfully.

On Sports Day, the field is _____ with banners.

Options :

1. ✖ full

2. ✖ fill

3. ✖ decorating

4. ✔ decorated

Question Number : 67 Question Id : 54592744911 Question Type : MCQ Option Shuffling : Yes
Correct Marks : 1 Wrong Marks : 0.25

Some parts of a sentence have been jumbled up, and labelled P, Q, R and S. Select the option that gives the correct sequence in which these parts can be rearranged to form a meaningful and grammatically correct sentence.

The United States and Germany

P: by embarking on the

Q: from the Great Depression

R: capitalist economic reforms

S: suffered and recovered

Options :

1. ✖ RSPQ
2. ✖ QPRS
3. ✖ PQRS
4. ✔ SQPR

Question Number : 67 Question Id : 54592744911 Question Type : MCQ Option Shuffling : Yes
Correct Marks : 1 Wrong Marks : 0.25

Some parts of a sentence have been jumbled up, and labelled P, Q, R and S. Select the option that gives the correct sequence in which these parts can be rearranged to form a meaningful and grammatically correct sentence.

The United States and Germany

P: by embarking on the

Q: from the Great Depression

R: capitalist economic reforms

S: suffered and recovered

Options :

1. ✖ RSPQ
2. ✖ QPRS
3. ✖ PQRS
4. ✔ SQPR

Question Number : 68 Question Id : 54592744912 Question Type : MCQ Option Shuffling : Yes
Correct Marks : 1 Wrong Marks : 0.25

Some parts of a sentence have been jumbled up, and labelled P, Q, R and S. Select the option that gives the correct sequence in which these parts can be rearranged to form a meaningful and grammatically correct sentence.

Strategy management is

P: to succeed in a rapidly changing

Q: several parameters affecting success

R: required for organizations

S: world where there are

Options :

1. ✖ PQRS

2. ✔ RPSQ

3. ✖ QSPR

4. ✖ SQPR

Question Number : 68 Question Id : 54592744912 Question Type : MCQ Option Shuffling : Yes

Correct Marks : 1 Wrong Marks : 0.25

Some parts of a sentence have been jumbled up, and labelled P, Q, R and S. Select the option that gives the correct sequence in which these parts can be rearranged to form a meaningful and grammatically correct sentence.

Strategy management is

P: to succeed in a rapidly changing

Q: several parameters affecting success

R: required for organizations

S: world where there are

Options :

1. ✘ PQRS
2. ✔ RPSQ
3. ✘ QSPR
4. ✘ SQPR

Question Number : 69 Question Id : 54592744913 Question Type : MCQ Option Shuffling : Yes
Correct Marks : 1 Wrong Marks : 0.25

Select the word that is opposite in meaning (ANTONYM) to the word given below.

Numerous

Options :

1. ✘ Annual
2. ✘ Flexible
3. ✔ Scarce
4. ✘ Various

Question Number : 69 Question Id : 54592744913 Question Type : MCQ Option Shuffling : Yes
Correct Marks : 1 Wrong Marks : 0.25

Select the word that is opposite in meaning (ANTONYM) to the word given below.

Numerous

Options :

1. ✘ Annual
2. ✘ Flexible
3. ✔ Scarce

4. ✖ Various

Question Number : 70 Question Id : 54592744914 Question Type : MCQ Option Shuffling : Yes
Correct Marks : 1 Wrong Marks : 0.25

Select the word that is opposite in meaning (ANTONYM) to the word given below.

Shrewd

Options :

1. ✔ Stupid
2. ✖ Crafty
3. ✖ Lavish
4. ✖ Tender

Question Number : 70 Question Id : 54592744914 Question Type : MCQ Option Shuffling : Yes
Correct Marks : 1 Wrong Marks : 0.25

Select the word that is opposite in meaning (ANTONYM) to the word given below.

Shrewd

Options :

1. ✔ Stupid
2. ✖ Crafty
3. ✖ Lavish
4. ✖ Tender

Question Number : 71 Question Id : 54592744915 Question Type : MCQ Option Shuffling : Yes
Correct Marks : 1 Wrong Marks : 0.25

Select the word that is spelled correctly.

Note: For this question, discrepancy is found in question/answer. So, this question is ignored for all candidates.

Options :

1. Extravagance
2. Extravaganza
3. Extravazance
4. Extravagnce

Question Number : 71 Question Id : 54592744915 Question Type : MCQ Option Shuffling : Yes
Correct Marks : 1 Wrong Marks : 0.25

Select the word that is spelled correctly.

Note: For this question, discrepancy is found in question/answer. So, this question is ignored for all candidates.

Options :

1. Extravagance
2. Extravaganza
3. Extravazance
4. Extravagnce

Question Number : 72 Question Id : 54592744916 Question Type : MCQ Option Shuffling : Yes
Correct Marks : 1 Wrong Marks : 0.25

Select the word that is spelled correctly.

Options :

1. ✖ Benevalonce
2. ✖ Benevolance
3. ✔ Benevolence
4. ✖ Benavolence

Question Number : 72 Question Id : 54592744916 Question Type : MCQ Option Shuffling : Yes
Correct Marks : 1 Wrong Marks : 0.25

Select the word that is spelled correctly.

Options :

1. ✖ Benevalonce
2. ✖ Benevolance

3. ✓ Benevolence

4. ✗ Benavolence

Question Number : 73 Question Id : 54592744917 Question Type : MCQ Option Shuffling : Yes

Correct Marks : 1 Wrong Marks : 0.25

Select the option that best expresses the meaning of the idiom or phrase given below.

Let the cat out of the bag

Options :

1. ✓ Give away a secret

2. ✗ To spoil something

3. ✗ Take only calculated risks

4. ✗ Get two things done with a single action

Question Number : 73 Question Id : 54592744917 Question Type : MCQ Option Shuffling : Yes

Correct Marks : 1 Wrong Marks : 0.25

Select the option that best expresses the meaning of the idiom or phrase given below.

Let the cat out of the bag

Options :

1. ✓ Give away a secret

2. ✗ To spoil something

3. ✗ Take only calculated risks

4. ✗ Get two things done with a single action

Question Number : 74 Question Id : 54592744918 Question Type : MCQ Option Shuffling : Yes

Correct Marks : 1 Wrong Marks : 0.25

Select the option that best expresses the meaning of the idiom or phrase given below.

Rain on someone's parade

Options :

1. ✖ To postpone a plan
2. ✖ To save money for later
3. ✔ To spoil something
4. ✖ To put a project on hold

Question Number : 74 Question Id : 54592744918 Question Type : MCQ Option Shuffling : Yes
Correct Marks : 1 Wrong Marks : 0.25

Select the option that best expresses the meaning of the idiom or phrase given below.

Rain on someone's parade

Options :

1. ✖ To postpone a plan
2. ✖ To save money for later
3. ✔ To spoil something
4. ✖ To put a project on hold

Question Number : 75 Question Id : 54592744919 Question Type : MCQ Option Shuffling : Yes
Correct Marks : 1 Wrong Marks : 0.25

Select the most appropriate 'one word ' for the expressions given below.

Fear of dogs

Options :

1. ✔ Cynophobia

2. ✖ Chronophobia

3. ✖ Centrophobia

4. ✖ Cacophobia

Question Number : 75 Question Id : 54592744919 Question Type : MCQ Option Shuffling : Yes
Correct Marks : 1 Wrong Marks : 0.25

Select the most appropriate 'one word ' for the expressions given below.

Fear of dogs

Options :

1. ✔ Cynophobia

2. ✖ Chronophobia

3. ✖ Centrophobia

4. ✖ Cacophobia

Sub-Section Number:	2
Sub-Section Id:	5459272669
Question Shuffling Allowed :	Yes

Question Id : 54592744920 Question Type : COMPREHENSION Sub Question Shuffling Allowed : Yes Group Comprehension Questions : No

Question Numbers : (76 to 80)

Question Label : Comprehension

Read the passage carefully and answer the following questions based on this passage.

Sacred Games is an Indian web television thriller series based on Vikram Chandra's 2006 novel of the same name. The first Netflix original series in India, it is directed by Vikramaditya Motwane and Anurag Kashyap, who produced it under their banner Phantom Films. The novel was adapted by Varun Grover, Singh and Vasant Nath. Kelly Luegenbiehl, Erik Barmack and Motwane served as the executive producers. Sartaj Singh (Saif Ali Khan) is a troubled police officer in Mumbai who receives a phone call from gangster Ganesh Gaitonde (Nawazuddin Siddiqui), who tells him to save the city within 25 days. The series chronicles the events that follow. Other cast members include Radhika Apte, Girish Kulkarni, Neeraj Kabi, Jeetendra Joshi, Rajshri Deshpande, Karan Wahi, Aamir Bashir, Jatin Sarna, Elnaaz Norouzi, Amey Wagh and Kubra Sait. The development of Sacred Games started after Erik Barmack, the Vice-president of Netflix contacted Motwane to create Indian content for the platform in 2014. They opted to adapt Chandra's novel in the local Indian language, to which Motwane agreed. After the script was completed, Motwane asked Kashyap to co-direct; Motwane directed the sequences involving Singh while Kashyap directed Gaitonde's. Swapnil Sonawane was the director of photography for Motwane; Sylvester Fonseca and Aseem Bajaj filmed the scenes directed by Kashyap. Aarti Bajaj was the editor and Alokanda Dasgupta composed the background score.

Sub questions

Question Number : 76 Question Id : 54592744921 Question Type : MCQ Option Shuffling : Yes

Correct Marks : 1 Wrong Marks : 0.25

The novel 'Sacred Games' was written by _____.

Options :

1. ✖ Mukesh Bhatt
2. ✖ Chetan Bhagat
3. ✖ Vikramaditya Motwane
4. ✔ Vikram Chandra

Question Number : 77 Question Id : 54592744922 Question Type : MCQ Option Shuffling : Yes

Correct Marks : 1 Wrong Marks : 0.25

In which year was the novel 'Sacred Games'?

Options :

1. ✖ 2008
2. ✔ 2006
3. ✖ 2007
4. ✖ 2010

Question Number : 78 Question Id : 54592744923 Question Type : MCQ Option Shuffling : Yes

Correct Marks : 1 Wrong Marks : 0.25

Within how many days does Ganesh Gaitonde asks Sartaj Singh to save the city of Mumbai?

Options :

1. ✖ 21 days
2. ✖ 23 days
3. ✔ 25 days
4. ✖ 27 days

Question Number : 79 Question Id : 54592744924 Question Type : MCQ Option Shuffling : Yes

Correct Marks : 1 Wrong Marks : 0.25

Who was the vice president of Netflix in 2014?

Options :

1. ✓ Erik Barmack
2. ✗ Kubra Sait
3. ✗ James Balmer
4. ✗ Radhika Apte

Question Number : 80 Question Id : 54592744925 Question Type : MCQ Option Shuffling : Yes
Correct Marks : 1 Wrong Marks : 0.25

Who was the editor while producing 'Sacred Games'?

Options :

1. ✓ Aarti Bajaj
2. ✗ Erik Barmack
3. ✗ Swapnil Sonawane
4. ✗ Aseem Bajaj

Question Id : 54592744920 Question Type : COMPREHENSION Sub Question Shuffling Allowed : Yes Group Comprehension
Questions : No

Question Numbers : (76 to 80)

Question Label : Comprehension

Read the passage carefully and answer the following questions based on this passage.

Sacred Games is an Indian web television thriller series based on Vikram Chandra's 2006 novel of the same name. The first Netflix original series in India, it is directed by Vikramaditya Motwane and Anurag Kashyap, who produced it under their banner Phantom Films. The novel was adapted by Varun Grover, Singh and Vasant Nath. Kelly Luegenbiehl, Erik Barmack and Motwane served as the executive producers. Sartaj Singh (Saif Ali Khan) is a troubled police officer in Mumbai who receives a phone call from gangster Ganesh Gaitonde (Nawazuddin Siddiqui), who tells him to save the city within 25 days. The series chronicles the events that follow. Other cast members include Radhika Apte, Girish Kulkarni, Neeraj Kabi, Jeetendra Joshi, Rajshri Deshpande, Karan Wahi, Aamir Bashir, Jatin Sarna, Elnaaz Norouzi, Amey Wagh and Kubra Sait. The development of Sacred Games started after Erik Barmack, the Vice-president of Netflix contacted Motwane to create Indian content for the platform in 2014. They opted to adapt Chandra's novel in the local Indian language, to which Motwane agreed. After the script was completed, Motwane asked Kashyap to co-direct; Motwane directed the sequences involving Singh while Kashyap directed Gaitonde's. Swapnil Sonawane was the director of photography for Motwane; Sylvester Fonseca and Aseem Bajaj filmed the scenes directed by Kashyap. Aarti Bajaj was the editor and Alok Ananda Dasgupta composed the background score.

Sub questions

Question Number : 76 Question Id : 54592744921 Question Type : MCQ Option Shuffling : Yes

Correct Marks : 1 Wrong Marks : 0.25

The novel 'Sacred Games' was written by _____.

Options :

1. ✘ Mukesh Bhatt
2. ✘ Chetan Bhagat
3. ✘ Vikramaditya Motwane
4. ✔ Vikram Chandra

Question Number : 77 Question Id : 54592744922 Question Type : MCQ Option Shuffling : Yes

Correct Marks : 1 Wrong Marks : 0.25

In which year was the novel 'Sacred Games'?

Options :

1. ✘ 2008
2. ✔ 2006
3. ✘ 2007
4. ✘ 2010

Question Number : 78 Question Id : 54592744923 Question Type : MCQ Option Shuffling : Yes

Correct Marks : 1 Wrong Marks : 0.25

Within how many days does Ganesh Gaitonde asks Sartaj Singh to save the city of Mumbai?

Options :

1. ✘ 21 days
2. ✘ 23 days
3. ✔ 25 days
4. ✘ 27 days

Question Number : 79 Question Id : 54592744924 Question Type : MCQ Option Shuffling : Yes
Correct Marks : 1 Wrong Marks : 0.25

Who was the vice president of Netflix in 2014?

Options :

1. ✓ Erik Barmack
2. ✗ Kubra Sait
3. ✗ James Balmer
4. ✗ Radhika Apte

Question Number : 80 Question Id : 54592744925 Question Type : MCQ Option Shuffling : Yes
Correct Marks : 1 Wrong Marks : 0.25

Who was the editor while producing 'Sacred Games'?

Options :

1. ✓ Aarti Bajaj
2. ✗ Erik Barmack
3. ✗ Swapnil Sonawane
4. ✗ Aseem Bajaj

General Hindi

Group Number :	5
Group Id :	5459272225
Group Maximum Duration :	0
Group Minimum Duration :	0
Show Attended Group? :	No
Edit Attended Group? :	No
Break time:	0
Group Marks:	20
Is this Group for Examiner?:	No
Revisit allowed for group Instructions? :	Yes
Maximum Instruction Time:	0
Minimum Instruction Time:	0

General Hindi

Section Id :	5459272225
Section Number :	1
Section type :	Online
Mandatory or Optional:	Mandatory
Number of Questions:	16
Number of Questions to be attempted:	16
Section Marks:	20

Sub-Section Number:	1
Sub-Section Id:	5459272670
Question Shuffling Allowed :	Yes

Question Number : 81 Question Id : 54592744926 Question Type : MCQ Option Shuffling : Yes
Correct Marks : 1 Wrong Marks : 0.25

निम्नलिखित प्रश्न में, चार विकल्पों में से, उस विकल्प का चयन करें जो दिए गए सही संधि विच्छेद की संधि का सही विकल्प हो

वाक् + दान

Options :

1. * वाकदान
2. * वादान
3. * वाकदन
4. ✓ वाग्दान

Question Number : 81 Question Id : 54592744926 Question Type : MCQ Option Shuffling : Yes
Correct Marks : 1 Wrong Marks : 0.25

निम्नलिखित प्रश्न में, चार विकल्पों में से, उस विकल्प का चयन करें जो दिए गए सही संधि विच्छेद की संधि का सही विकल्प हो

वाक् + दान

Options :

1. * वाकदान
2. * वादान
3. * वाकदन

4. ✓ वाग्दान

Question Number : 82 Question Id : 54592744927 Question Type : MCQ Option Shuffling : Yes

Correct Marks : 1 Wrong Marks : 0.25

निम्नलिखित प्रश्न में, चार विकल्पों में से, उस विकल्प का चयन करें जो दिए गए शब्द के सही संधि विच्छेद का विकल्प हो

आच्छादन

Options :

1. * आच + छादन
2. ✓ आ + छादन
3. * आ + च्छादन
4. * आच्छा + दन

Question Number : 82 Question Id : 54592744927 Question Type : MCQ Option Shuffling : Yes

Correct Marks : 1 Wrong Marks : 0.25

निम्नलिखित प्रश्न में, चार विकल्पों में से, उस विकल्प का चयन करें जो दिए गए शब्द के सही संधि विच्छेद का विकल्प हो

आच्छादन

Options :

1. * आच + छादन
2. ✓ आ + छादन
3. * आ + च्छादन
4. * आच्छा + दन

Question Number : 83 Question Id : 54592744928 Question Type : MCQ Option Shuffling : Yes

Correct Marks : 1 Wrong Marks : 0.25

निम्नलिखित प्रश्न में, चार विकल्पों में से, उस विकल्प का चयन करें जो दिए गए शब्द के लिए सही बहुव्रीहि समास के विग्रह का विकल्प हो

श्वेतांबर

Options :

1. ✓ श्वेत है जिसके अंबर अर्थात सरस्वती जी
2. ✘ श्वेत अंबर वाला
3. ✘ श्वेत है जो अंबर
4. ✘ श्वेत जैसा अंबर

Question Number : 83 Question Id : 54592744928 Question Type : MCQ Option Shuffling : Yes

Correct Marks : 1 Wrong Marks : 0.25

निम्नलिखित प्रश्न में, चार विकल्पों में से, उस विकल्प का चयन करें जो दिए गए शब्द के लिए सही बहुव्रीहि समास के विग्रह का विकल्प हो

श्वेतांबर

Options :

1. ✓ श्वेत है जिसके अंबर अर्थात सरस्वती जी
2. ✘ श्वेत अंबर वाला
3. ✘ श्वेत है जो अंबर
4. ✘ श्वेत जैसा अंबर

Question Number : 84 Question Id : 54592744929 Question Type : MCQ Option Shuffling : Yes

Correct Marks : 1 Wrong Marks : 0.25

निम्नलिखित प्रश्न में, चार विकल्पों में से, उस विकल्प का चयन करें जो उपसर्ग से बने शब्द का सही विकल्प हो

Options :

1. ✘ सफलता
2. ✘ चालाकी
3. ✓ निरंजन

4. * उड़ान

Question Number : 84 Question Id : 54592744929 Question Type : MCQ Option Shuffling : Yes
Correct Marks : 1 Wrong Marks : 0.25

निम्नलिखित प्रश्न में, चार विकल्पों में से, उस विकल्प का चयन करें जो उपसर्ग से बने शब्द का सही विकल्प हो

Options :

1. * सफलता
2. * चालाकी
3. ✓ निरंजन
4. * उड़ान

Question Number : 85 Question Id : 54592744930 Question Type : MCQ Option Shuffling : Yes
Correct Marks : 1 Wrong Marks : 0.25

निम्नलिखित प्रश्न में, चार विकल्पों में से, उस विकल्प का चयन करें जो प्रत्यय से बने शब्द का सही विकल्प हो

Options :

1. * प्रतिकूल
2. ✓ लेखक
3. * विनंती
4. * सुकृत

Question Number : 85 Question Id : 54592744930 Question Type : MCQ Option Shuffling : Yes
Correct Marks : 1 Wrong Marks : 0.25

निम्नलिखित प्रश्न में, चार विकल्पों में से, उस विकल्प का चयन करें जो प्रत्यय से बने शब्द का सही विकल्प हो

Options :

1. * प्रतिकूल
2. ✓ लेखक
3. * विनंती

4. * सुकृत

Question Number : 86 Question Id : 54592744931 Question Type : MCQ Option Shuffling : Yes

Correct Marks : 1 Wrong Marks : 0.25

निम्नलिखित प्रश्न में, चार विकल्पों में से, उस विकल्प का चयन करें जो शुद्ध शब्द का सही विकल्प है।

Options :

1. * झुजलाना
2. * झुझलाना
3. * झुझालाना
4. ✓ झुंझलाना

Question Number : 86 Question Id : 54592744931 Question Type : MCQ Option Shuffling : Yes

Correct Marks : 1 Wrong Marks : 0.25

निम्नलिखित प्रश्न में, चार विकल्पों में से, उस विकल्प का चयन करें जो शुद्ध शब्द का सही विकल्प है।

Options :

1. * झुजलाना
2. * झुझलाना
3. * झुझालाना
4. ✓ झुंझलाना

Question Number : 87 Question Id : 54592744932 Question Type : MCQ Option Shuffling : Yes

Correct Marks : 1 Wrong Marks : 0.25

निम्नलिखित प्रश्न में, चार विकल्पों में से, उस विकल्प का चयन करें जो दिए गए शब्द का सही समान अर्थ वाला विकल्प हो

देवता

Options :

1. * अभिनव
2. * शशांक

3. ✓ अमर्त्य

4. * निदाघ

Question Number : 87 Question Id : 54592744932 Question Type : MCQ Option Shuffling : Yes
Correct Marks : 1 Wrong Marks : 0.25

निम्नलिखित प्रश्न में, चार विकल्पों में से, उस विकल्प का चयन करें जो दिए गए शब्द का सही समान अर्थ वाला विकल्प हो

देवता

Options :

1. * अभिनव

2. * शशांक

3. ✓ अमर्त्य

4. * निदाघ

Question Number : 88 Question Id : 54592744933 Question Type : MCQ Option Shuffling : Yes
Correct Marks : 1 Wrong Marks : 0.25

निम्नलिखित प्रश्न में, चार विकल्पों में से, उस सही विकल्प का चयन करें जो कोष्ठक में दिए गए शब्द का सही विकल्प हो

रमेश ने अपने भाई को बंगाली (बताया)।

Options :

1. ✓ सिखाया

2. * दिखाया

3. * बुलाया

4. * जताया

Question Number : 88 Question Id : 54592744933 Question Type : MCQ Option Shuffling : Yes
Correct Marks : 1 Wrong Marks : 0.25

निम्नलिखित प्रश्न में, चार विकल्पों में से, उस सही विकल्प का चयन करें जो कोष्ठक में दिए गए शब्द का सही विकल्प हो

रमेश ने अपने भाई को बंगाली (बताया)।

Options :

1. ✓ सिखाया
2. * दिखाया
3. * बुलाया
4. * जताया

Question Number : 89 Question Id : 54592744934 Question Type : MCQ Option Shuffling : Yes

Correct Marks : 1 Wrong Marks : 0.25

निम्नलिखित प्रश्न में, चार विकल्पों में से, उस विकल्प का चयन करें जो दिए गए शब्द के लिए बहुवचन शब्द का सबसे अच्छा विकल्प है।

तिथि

Options :

1. * तिथियों
2. * तिथिया
3. ✓ तिथियाँ
4. * तिथियें

Question Number : 89 Question Id : 54592744934 Question Type : MCQ Option Shuffling : Yes

Correct Marks : 1 Wrong Marks : 0.25

निम्नलिखित प्रश्न में, चार विकल्पों में से, उस विकल्प का चयन करें जो दिए गए शब्द के लिए बहुवचन शब्द का सबसे अच्छा विकल्प है।

तिथि

Options :

1. ✖ तिथियों
2. ✖ तिथिया
3. ✔ तिथियाँ
4. ✖ तिथियें

Question Number : 90 Question Id : 54592744935 Question Type : MCQ Option Shuffling : Yes
Correct Marks : 1 Wrong Marks : 0.25

निम्नलिखित प्रश्न में, चार विकल्पों में से, उस विकल्प का चयन करें जो कोष्ठक में दिए गए शब्द के अनुसार उत्तम पुरुष वाचक सर्वनाम का सबसे अच्छा विकल्प है।

Options :

1. ✖ (उनके) पास मैंने अपना सारा सामान रख दिया है।
2. ✖ (तुमसे) कोई भी काम सही ढंग से क्यों नहीं होता?
3. ✖ (आप) लोग इतना गलत काम करेंगे इसकी हमें उम्मीद नहीं थी।
4. ✔ (मैंने) अपना काम समय पर पूरा किया।

Question Number : 90 Question Id : 54592744935 Question Type : MCQ Option Shuffling : Yes
Correct Marks : 1 Wrong Marks : 0.25

निम्नलिखित प्रश्न में, चार विकल्पों में से, उस विकल्प का चयन करें जो कोष्ठक में दिए गए शब्द के अनुसार उत्तम पुरुष वाचक सर्वनाम का सबसे अच्छा विकल्प है।

Options :

1. ✖ (उनके) पास मैंने अपना सारा सामान रख दिया है।
2. ✖ (तुमसे) कोई भी काम सही ढंग से क्यों नहीं होता?
3. ✖ (आप) लोग इतना गलत काम करेंगे इसकी हमें उम्मीद नहीं थी।
4. ✔ (मैंने) अपना काम समय पर पूरा किया।

Question Number : 91 Question Id : 54592744936 Question Type : MCQ Option Shuffling : Yes
Correct Marks : 1 Wrong Marks : 0.25

निम्नलिखित प्रश्न में, चार विकल्पों में से, उस विकल्प का चयन करें जो शुद्ध वाक्य का सबसे अच्छा विकल्प है।

Options :

1. * मैं पटना गया तो उस समय मेरे पास केवल बीस रुपये मात्र थे।
2. ✓ मैं पटना गया तो उस समय मेरे पास केवल बीस रुपये थे।
3. * मैं पटना गया तो वह समय मेरा पास केवल बीस रुपये थे।
4. * हम पटना गया तो उस समय हमारा पास केवल बीस रुपये थे।

Question Number : 91 Question Id : 54592744936 Question Type : MCQ Option Shuffling : Yes

Correct Marks : 1 Wrong Marks : 0.25

निम्नलिखित प्रश्न में, चार विकल्पों में से, उस विकल्प का चयन करें जो शुद्ध वाक्य का सबसे अच्छा विकल्प है।

Options :

1. * मैं पटना गया तो उस समय मेरे पास केवल बीस रुपये मात्र थे।
2. ✓ मैं पटना गया तो उस समय मेरे पास केवल बीस रुपये थे।
3. * मैं पटना गया तो वह समय मेरा पास केवल बीस रुपये थे।
4. * हम पटना गया तो उस समय हमारा पास केवल बीस रुपये थे।

Question Number : 92 Question Id : 54592744937 Question Type : MCQ Option Shuffling : Yes

Correct Marks : 1 Wrong Marks : 0.25

निम्नलिखित प्रश्न में, चार विकल्पों में से, उस विकल्प का चयन करें जो शुद्ध वाक्य का सबसे अच्छा विकल्प है।

Options :

1. ✓ राम राज्य में शेर और बकरी एक घाट पर पानी पीते थे।
2. * राम राज्य में शेर और बकरी एक घाट पर पानी पीती थी।
3. * राम राज्य को शेर बकरी एक घाट पर पानी पीते थे।
4. * राम राज्य में शेर अलावा बकरी एक घाट को पानी पीते थे।

Question Number : 92 Question Id : 54592744937 Question Type : MCQ Option Shuffling : Yes

Correct Marks : 1 Wrong Marks : 0.25

निम्नलिखित प्रश्न में, चार विकल्पों में से, उस विकल्प का चयन करें जो शुद्ध वाक्य का सबसे अच्छा विकल्प है।

Options :

1. ✓ राम राज्य में शेर और बकरी एक घाट पर पानी पीते थे।
2. ✘ राम राज्य में शेर और बकरी एक घाट पर पानी पीती थी।
3. ✘ राम राज्य को शेर बकरी एक घाट पर पानी पीते थे।
4. ✘ राम राज्य में शेर अलावा बकरी एक घाट को पानी पीते थे।

Question Number : 93 Question Id : 54592744938 Question Type : MCQ Option Shuffling : Yes

Correct Marks : 1 Wrong Marks : 0.25

निम्नलिखित प्रश्न में, चार विकल्पों में से, उस विकल्प का चयन करें जो विराम चिह्न युक्त वाक्य का सही विकल्प हो

Options :

1. ✘ वचन के दो भेद हैं एकवचन और बहुवचन।
2. ✘ वचन के दो भेद हैं, एकवचन और बहुवचन।
3. ✘ वचन के दो भेद हैं: एकवचन और बहुवचन
4. ✓ वचन के दो भेद हैं:- एकवचन और बहुवचन।

Question Number : 93 Question Id : 54592744938 Question Type : MCQ Option Shuffling : Yes

Correct Marks : 1 Wrong Marks : 0.25

निम्नलिखित प्रश्न में, चार विकल्पों में से, उस विकल्प का चयन करें जो विराम चिह्न युक्त वाक्य का सही विकल्प हो

Options :

1. ✘ वचन के दो भेद हैं एकवचन और बहुवचन।
2. ✘ वचन के दो भेद हैं, एकवचन और बहुवचन।
3. ✘ वचन के दो भेद हैं: एकवचन और बहुवचन
4. ✓ वचन के दो भेद हैं:- एकवचन और बहुवचन।

Question Number : 94 Question Id : 54592744939 Question Type : MCQ Option Shuffling : Yes

Correct Marks : 1 Wrong Marks : 0.25

निम्नलिखित प्रश्न में, चार विकल्पों में से, उस विकल्प का चयन करें जो दिए गए मुहावरे का सही अर्थ वाला विकल्प है।

तूती बोलना -

Options :

1. * अलग-अलग होना
2. ✓ खूब प्रभाव होना
3. * खुशामद करना
4. * स्पष्ट कहना

Question Number : 94 Question Id : 54592744939 Question Type : MCQ Option Shuffling : Yes

Correct Marks : 1 Wrong Marks : 0.25

निम्नलिखित प्रश्न में, चार विकल्पों में से, उस विकल्प का चयन करें जो दिए गए मुहावरे का सही अर्थ वाला विकल्प है।

तूती बोलना -

Options :

1. * अलग-अलग होना
2. ✓ खूब प्रभाव होना
3. * खुशामद करना
4. * स्पष्ट कहना

Question Number : 95 Question Id : 54592744940 Question Type : MCQ Option Shuffling : Yes

Correct Marks : 1 Wrong Marks : 0.25

निम्नलिखित प्रश्न में, चार विकल्पों में से, उस विकल्प का चयन करें जो दी गई लोकोक्ति का सही अर्थ वाला विकल्प है।

लड्डु कहे मुँह मीठा नहीं होता -

Options :

1. * गुण नहीं छिपते

2. * सिर्फ नाम ही काफी है
3. ✓ केवल कहने से काम नहीं बन जाता
4. * प्रत्येक वस्तु का सदुपयोग

Question Number : 95 Question Id : 54592744940 Question Type : MCQ Option Shuffling : Yes
Correct Marks : 1 Wrong Marks : 0.25

निम्नलिखित प्रश्न में, चार विकल्पों में से, उस विकल्प का चयन करें जो दी गई लोकोक्ति का सही अर्थ वाला विकल्प है।

लड्डू कहे मुँह मीठा नहीं होता -

Options :

1. * गुण नहीं छिपते
2. * सिर्फ नाम ही काफी है
3. ✓ केवल कहने से काम नहीं बन जाता
4. * प्रत्येक वस्तु का सदुपयोग

Sub-Section Number:	2
Sub-Section Id:	5459272671
Question Shuffling Allowed :	Yes

Question Id : 54592744941 Question Type : COMPREHENSION Sub Question Shuffling Allowed : Yes Group Comprehension Questions : No

Question Numbers : (96 to 100)

Question Label : Comprehension

इस गद्यांश को ध्यानपूर्वक पढ़ें और चार विकल्पों में से प्रत्येक प्रश्न का सर्वोत्तम उत्तर चुनें।

विद्यार्थी जीवन को मानव जीवन की रीढ़ की हड्डी कहें तो कोई अतिशयोक्ति नहीं होगी। विद्यार्थी काल में बालक में जो संस्कार पड़ जाते हैं जीवन-भर वही संस्कार अमिट रहते हैं। इसीलिए यही काल आधारशिला कहा गया है। यदि यह नींव टूट बन जाती है तो जीवन सुदृढ़ और सुखी बन जाता है। यदि इस काल में बालक कष्ट सहन कर लेता है तो उसका स्वास्थ्य सुंदर बनता है। यदि मन लगाकर अध्ययन कर लेता है तो उसे ज्ञान मिलता है, उसका मानसिक विकास होता है। जिस वृक्ष को प्रारंभ से सुंदर सिंचन और खाद मिल जाती है, वह पुष्पित एवं पल्लवित होकर संसार को सौरभ देने लगता है। इसी प्रकार विद्यार्थी काल में जो बालक श्रम, अनुशासन, समय एवं नियमन के साँचे में ढल जाता है, वह आदर्श विद्यार्थी बनकर सभ्य नागरिक बन जाता है। सभ्य नागरिक के लिए जिन-जिन गुणों की आवश्यकता है उन गुणों के लिए विद्यार्थी काल ही तो सुन्दर पाठशाला है। यहाँ पर अपने साथियों के बीच रह कर वे सभी गुण आ जाने आवश्यक हैं, जिनकी विद्यार्थी को अपने जीवन में आवश्यकता होती है।

Sub questions

Question Number : 96 Question Id : 54592744942 Question Type : MCQ Option Shuffling : Yes

Correct Marks : 1 Wrong Marks : 0.25

मानव जीवन की रीढ़ की हड्डी विद्यार्थी जीवन को क्यों माना जाता है?

Options :

1. * पूरा जीवन विद्यार्थी जीवन पर चलता है।
2. ✓ जो संस्कार विद्यार्थी जीवन में पड़ जाते हैं वे संस्कार स्थायी हो जाते हैं।
3. * विद्यार्थी जीवन सुखी जीवन होता है।
4. * विद्यार्थी जीवन में ज्ञान मिलता है।

Question Number : 97 Question Id : 54592744943 Question Type : MCQ Option Shuffling : Yes

Correct Marks : 1 Wrong Marks : 0.25

गद्यांश में 'वृक्ष' किसे कहा गया है?

Options :

1. * पेड़ को
2. ✓ विद्यार्थी को
3. * जीवन को

4. * समय को

Question Number : 98 Question Id : 54592744944 Question Type : MCQ Option Shuffling : Yes

Correct Marks : 1 Wrong Marks : 0.25

यदि विद्यार्थी काल में बालक कष्ट सहन कर लेता है तो उसका स्वास्थ्य कैसा बन जाता है?

Options :

1. ✓ सुन्दर
2. * मलिन
3. * दर्दनाक
4. * समस्याग्रस्त

Question Number : 99 Question Id : 54592744945 Question Type : MCQ Option Shuffling : Yes

Correct Marks : 1 Wrong Marks : 0.25

इनमें से कौन - सा आदर्श का पर्यायवाची नहीं है?

Options :

1. * प्रतिमान
2. * अवलोकनीय गुण
3. * नमूना
4. ✓ उद्दंत

Question Number : 100 Question Id : 54592744946 Question Type : MCQ Option Shuffling : Yes

Correct Marks : 1 Wrong Marks : 0.25

इस अनुच्छेद का कोई उपयुक्त शीर्षक-

Options :

1. * गुण
2. * सभ्य नागरिक
3. ✓ विद्यार्थी जीवन
4. * सुन्दर संसार

Question Id : 54592744941 Question Type : COMPREHENSION Sub Question Shuffling Allowed : Yes Group Comprehension Questions : No

Question Numbers : (96 to 100)

Question Label : Comprehension

इस गद्यांश को ध्यानपूर्वक पढ़ें और चार विकल्पों में से प्रत्येक प्रश्न का सर्वोत्तम उत्तर चुनें।

विद्यार्थी जीवन को मानव जीवन की रीढ़ की हड्डी कहें तो कोई अतिशयोक्ति नहीं होगी। विद्यार्थी काल में बालक में जो संस्कार पड़ जाते हैं जीवन-भर वही संस्कार अमिट रहते हैं। इसीलिए यही काल आधारशिला कहा गया है। यदि यह नींव दृढ बन जाती है तो जीवन सुदृढ और सुखी बन जाता है। यदि इस काल में बालक कष्ट सहन कर लेता है तो उसका स्वास्थ्य सुंदर बनता है। यदि मन लगाकर अध्ययन कर लेता है तो उसे ज्ञान मिलता है, उसका मानसिक विकास होता है। जिस वृक्ष को प्रारंभ से सुंदर सिंचन और खाद मिल जाती है, वह पुष्पित एवं पल्लवित होकर संसार को सौरभ देने लगता है। इसी प्रकार विद्यार्थी काल में जो बालक श्रम, अनुशासन, समय एवं नियमन के साँचे में ढल जाता है, वह आदर्श विद्यार्थी बनकर सभ्य नागरिक बन जाता है। सभ्य नागरिक के लिए जिन-जिन गुणों की आवश्यकता है उन गुणों के लिए विद्यार्थी काल ही तो सुन्दर पाठशाला है। यहाँ पर अपने साथियों के बीच रह कर वे सभी गुण आ जाने आवश्यक हैं, जिनकी विद्यार्थी को अपने जीवन में आवश्यकता होती है।

Sub questions

Question Number : 96 Question Id : 54592744942 Question Type : MCQ Option Shuffling : Yes

Correct Marks : 1 Wrong Marks : 0.25

मानव जीवन की रीढ़ की हड्डी विद्यार्थी जीवन को क्यों माना जाता है?

Options :

1. * पूरा जीवन विद्यार्थी जीवन पर चलता है।

2. ✓ जो संस्कार विद्यार्थी जीवन में पड़ जाते हैं वे संस्कार स्थायी हो जाते हैं

3. * विद्यार्थी जीवन सुखी जीवन होता है।

4. * विद्यार्थी जीवन में ज्ञान मिलता है।

Question Number : 97 Question Id : 54592744943 Question Type : MCQ Option Shuffling : Yes
Correct Marks : 1 Wrong Marks : 0.25

गद्यांश में 'वृक्ष' किसे कहा गया है?

Options :

1. * पेड़ को

2. ✓ विद्यार्थी को

3. * जीवन को

4. * समय को

Question Number : 98 Question Id : 54592744944 Question Type : MCQ Option Shuffling : Yes
Correct Marks : 1 Wrong Marks : 0.25

यदि विद्यार्थी काल में बालक कष्ट सहन कर लेता है तो उसका स्वास्थ्य कैसा बन जाता है?

Options :

1. ✓ सुन्दर

2. * मलिन

3. * दर्दनाक

4. * समस्याग्रस्त

Question Number : 99 Question Id : 54592744945 Question Type : MCQ Option Shuffling : Yes
Correct Marks : 1 Wrong Marks : 0.25

इनमें से कौन - सा आदर्श का पर्यायवाची नहीं है?

Options :

1. * प्रतिमान

2. ✖ अवलोकनीय गुण

3. ✖ नमूना

4. ✔ उद्दंत

Question Number : 100 Question Id : 54592744946 Question Type : MCQ Option Shuffling : Yes
Correct Marks : 1 Wrong Marks : 0.25

इस अनुच्छेद का कोई उपयुक्त शीर्षक-

Options :

1. ✖ गुण

2. ✖ सभ्य नागरिक

3. ✔ विद्यार्थी जीवन

4. ✖ सुन्दर संसार

Discipline1

Group Number :	6
Group Id :	5459272226
Group Maximum Duration :	0
Group Minimum Duration :	0
Show Attended Group? :	No
Edit Attended Group? :	No
Break time:	0
Group Marks:	20
Is this Group for Examiner?:	No
Revisit allowed for group Instructions? :	Yes
Maximum Instruction Time:	0
Minimum Instruction Time:	0

Discipline1

Section Id :	5459272226
Section Number :	1
Section type :	Online
Mandatory or Optional:	Mandatory
Number of Questions:	20
Number of Questions to be attempted:	20
Section Marks:	20

Sub-Section Number: 1
Sub-Section Id: 5459272672
Question Shuffling Allowed : Yes

Question Number : 101 Question Id : 54592744947 Question Type : MCQ Option Shuffling : Yes
Correct Marks : 1 Wrong Marks : 0.25

___ refers to the professional codes used in the selection, construction and presentation of news.

Options :

1. ✖ News principles
2. ✔ News values
3. ✖ News angles
4. ✖ News styles

Question Number : 101 Question Id : 54592744947 Question Type : MCQ Option Shuffling : Yes
Correct Marks : 1 Wrong Marks : 0.25

___ समाचारों के चयन, रचना और प्रस्तुतिकरण में प्रयुक्त पेशेवर संहिताओं से संबंधित है।

Options :

1. ✖ समाचार सिद्धांत
2. ✔ समाचार मूल्य
3. ✖ समाचार दृष्टिकोण
4. ✖ समाचार शैलियां

Question Number : 102 Question Id : 54592744948 Question Type : MCQ Option Shuffling : Yes
Correct Marks : 1 Wrong Marks : 0.25

In a journalistic sense, _____ is reporting matters without taking sides or expressing opinions free of subjective values.

Options :

1. ✔ objectivity
2. ✖ accuracy
3. ✖ honesty

4. * subjectivity

Question Number : 102 Question Id : 54592744948 Question Type : MCQ Option Shuffling : Yes
Correct Marks : 1 Wrong Marks : 0.25

पत्रकार के संदर्भ में, पक्षपात किए बिना मामलों की रिपोर्टिंग करना, या वस्तुनिष्ठ मूल्यों से मुक्त राय व्यक्त करना _____ कहलाता है।

Options :

1. ✓ वस्तुनिष्ठता
2. * परिशुद्धता
3. * ईमानदारी
4. * वैषयिकता

Question Number : 103 Question Id : 54592744949 Question Type : MCQ Option Shuffling : Yes
Correct Marks : 1 Wrong Marks : 0.25

_____ is a type of journalism intended to promote a position on a political, controversial or social issue.

Options :

1. * Political journalism
2. * Social journalism
3. * Promotional journalism
4. ✓ Advocacy journalism

Question Number : 103 Question Id : 54592744949 Question Type : MCQ Option Shuffling : Yes
Correct Marks : 1 Wrong Marks : 0.25

_____ एक प्रकार की पत्रकारिता है जो किसी राजनैतिक, विवादित या सामाजिक मुद्दे पर स्थिति प्रचारित करने के लिए होती है।

Options :

1. * राजनैतिक पत्रकारिता
2. * सामाजिक पत्रकारिता
3. * प्रचार पत्रकारिता

4. ✓ पक्षसमर्थन पत्रकारिता

Question Number : 104 Question Id : 54592744950 Question Type : MCQ Option Shuffling : Yes
Correct Marks : 1 Wrong Marks : 0.25

Identification, usually printed at the beginning of an article of the journalist or reporter who is responsible for the news story is known as _____.

Options :

1. ✓ byline
2. ✗ caption
3. ✗ imprint
4. ✗ dateline

Question Number : 104 Question Id : 54592744950 Question Type : MCQ Option Shuffling : Yes
Correct Marks : 1 Wrong Marks : 0.25

किसी पत्रकार अथवा रिपोर्टर के आलेख के प्रारंभ में मुद्रित पहचान, जो उस समाचार कथा के लिए उत्तरदायी होता है, _____ कहलाती है।

Options :

1. ✓ बाईलाइन
2. ✗ उपशीर्षक
3. ✗ इम्प्रिंट
4. ✗ डेटलाइन

Question Number : 105 Question Id : 54592744951 Question Type : MCQ Option Shuffling : Yes
Correct Marks : 1 Wrong Marks : 0.25

Longer, more probing articles or a story in print medium, covering human interest topics opposed to hard news is popularly called _____.

Options :

1. ✗ news analysis
2. ✓ features

3. * investigative news

4. * human interest stories

Question Number : 105 Question Id : 54592744951 Question Type : MCQ Option Shuffling : Yes

Correct Marks : 1 Wrong Marks : 0.25

प्रिंट माध्यम में अधिक लंबे, अधिक पड़ताल करने वाले आलेख या कथा, जिसमें प्रायः मात्र समाचार के विपरीत मानवीय रूचि के विषयों को कवर किया जाता है, _____ के लोकप्रिय नाम से जाने जाते हैं।

Options :

1. * समाचार विश्लेषण

2. ✓ फीचर्स

3. * विवेचनात्मक समाचार

4. * मानवीय अभिरूचि वाली कहानियां

Question Number : 106 Question Id : 54592744952 Question Type : MCQ Option Shuffling : Yes

Correct Marks : 1 Wrong Marks : 0.25

An organisation that compiles, writes and distributes news to media outlets is known as _____.

Options :

1. * news ombudsman

2. * news bulletin

3. * news manual

4. ✓ news agency

Question Number : 106 Question Id : 54592744952 Question Type : MCQ Option Shuffling : Yes

Correct Marks : 1 Wrong Marks : 0.25

समाचार संकलित करने, लिखने और मीडिया आउटलेट्स को वितरित करने वाला संगठन _____ कहलाता है।

Options :

1. * समाचार लोकपाल

2. ✖ समाचार बुलेटिन
3. ✖ समाचार निर्देशिका
4. ✔ समाचार एजेंसी

Question Number : 107 Question Id : 54592744953 Question Type : MCQ Option Shuffling : Yes
Correct Marks : 1 Wrong Marks : 0.25

The study of body language such as postures, gestures, touch patterns, etc. and the messages that they convey during interaction is known as _____.

Options :

1. ✖ proxemics
2. ✔ kinesics
3. ✖ polemics
4. ✖ poetics

Question Number : 107 Question Id : 54592744953 Question Type : MCQ Option Shuffling : Yes
Correct Marks : 1 Wrong Marks : 0.25

शारीरिक हाव-भावों जैसे कि भाव-भंगिमाओं, मुद्राओं, स्पर्श पैटर्न आदि, तथा बातचीत के दौरान उनके द्वारा व्यक्त किए जाने वाले संदेशों का अध्ययन, _____ कहलाता है।

Options :

1. ✖ प्रॉक्सेमिक्स
2. ✔ काइनसिक्स
3. ✖ पोलेमिक्स
4. ✖ पोएटिक्स

Question Number : 108 Question Id : 54592744954 Question Type : MCQ Option Shuffling : Yes
Correct Marks : 1 Wrong Marks : 0.25

The study of the kind of zones that people maintain while interacting that varies from culture to culture is known as _____.

Options :

1. * body zone analysis
2. * zoonotic study
3. ✓ proxemics
4. * physical analysis

Question Number : 108 Question Id : 54592744954 Question Type : MCQ Option Shuffling : Yes

Correct Marks : 1 Wrong Marks : 0.25

लोगों द्वारा बातचीत करते समय बनाए रखे जाने वाले जोन, जो एक से दूसरी संस्कृति में अलग-अलग होते हैं, के प्रकारों का अध्ययन _____ कहलाता है।

Options :

1. * बॉडी जोन एनालिसिस
2. * जूनोटिक स्टडी
3. ✓ प्रॉक्सेमिक्स
4. * शारीरिक विश्लेषण (फिजिकल एनालिसिस)

Question Number : 109 Question Id : 54592744955 Question Type : MCQ Option Shuffling : Yes

Correct Marks : 1 Wrong Marks : 0.25

_____ is the arena within which debates occur. It is the generation of ideas, shared knowledge and the construction of opinions that occurs when people assemble and discuss.

Options :

1. ✓ Public sphere
2. * Common good
3. * Public good

4. * Common sphere

Question Number : 109 Question Id : 54592744955 Question Type : MCQ Option Shuffling : Yes

Correct Marks : 1 Wrong Marks : 0.25

_____ वह क्षेत्र है जहां बहस होती है। यहां लोगों के एकत्रित होने व चर्चा करने पर यहां विचारों का उद्भव, ज्ञान का आदान-प्रदान और राय निर्माण होता है।

Options :

1. ✓ सार्वजनिक क्षेत्र
2. * साझा लोकहित
3. * सार्वजनिक हित
4. * साझा स्थान

Question Number : 110 Question Id : 54592744956 Question Type : MCQ Option Shuffling : Yes

Correct Marks : 1 Wrong Marks : 0.25

_____ refers to the practice of using language to persuade or influence others and the language that results from this practice; the formal study of oratory, exposition and persuasion.

Options :

1. ✓ Rhetoric
2. * Lingua Franca
3. * Persuasive communication
4. * Expository

Question Number : 110 Question Id : 54592744956 Question Type : MCQ Option Shuffling : Yes

Correct Marks : 1 Wrong Marks : 0.25

_____ का अर्थ दूसरों को प्रेरित या प्रभावित करने के लिए भाषा का उपयोग करने की विधि तथा इस विधि की परिणामी भाषा से है, इसमें वक्तृत्व कला, पर्दाफाश, और प्रबोधन शामिल है।

Options :

1. ✓ धारानुचलनी (रियोटेरिक)

2. * लिंगुआ फ्रांका

3. * प्रबोधक संचार

4. * अर्थप्रकाशक

Question Number : 111 Question Id : 54592744957 Question Type : MCQ Option Shuffling : Yes
Correct Marks : 1 Wrong Marks : 0.25

In language, media and communication, _____ are words, pictures, sounds, sequences, stories, etc., that stand for ideas, emotions and facts.

Options :

1. ✓ representations

2. * references

3. * resources

4. * repositories

Question Number : 111 Question Id : 54592744957 Question Type : MCQ Option Shuffling : Yes
Correct Marks : 1 Wrong Marks : 0.25

भाषा में मीडिया और संचार, _____ शब्द, चित्र, ध्वनियां, क्रम, कहानियां आदि होते हैं, जो विचारों, भावनाओं और तथ्यों को निरूपित करते हैं।

Options :

1. ✓ प्रस्तुतिकरण

2. * संदर्भ

3. * संसाधन

4. * रिपॉजिटरीज

Question Number : 112 Question Id : 54592744958 Question Type : MCQ Option Shuffling : Yes
Correct Marks : 1 Wrong Marks : 0.25

_____ is the study of signs. It seeks to understand how language is made meaningful and how meaning can then be communicated in society.

Options :

1. ✓ Semiotics
2. * Signology
3. * Signometry
4. * Social signs

Question Number : 112 Question Id : 54592744958 Question Type : MCQ Option Shuffling : Yes

Correct Marks : 1 Wrong Marks : 0.25

प्रतीकों का अध्ययन _____ कहलाता है। इसमें यह समझने का प्रयास किया जाता है कि भाषा किस प्रकार शक्तिशाली बनती है और उसके बाद किस तरह से समाज में संदेश संप्रेषित किए जा सकते हैं।

Options :

1. ✓ सेमिओटिक्स
2. * साइनोलॉजी
3. * साइनोमीट्री
4. * सामाजिक संकेत

Question Number : 113 Question Id : 54592744959 Question Type : MCQ Option Shuffling : Yes

Correct Marks : 1 Wrong Marks : 0.25

An aspect of a story that makes it newsworthy, important or interesting is known as _____.

Options :

1. * news values
2. * news angle
3. ✓ news peg
4. * news source

Question Number : 113 Question Id : 54592744959 Question Type : MCQ Option Shuffling : Yes
Correct Marks : 1 Wrong Marks : 0.25

कहानी का पहलू, जो इसे समाचार योग्य, महत्त्वपूर्ण, या रोचक बनाता है, _____ कहलाता है।

Options :

1. * समाचार मूल्य
2. * समाचार कोण
3. ✓ न्यूज पेग
4. * समाचार स्रोत

Question Number : 114 Question Id : 54592744960 Question Type : MCQ Option Shuffling : Yes
Correct Marks : 1 Wrong Marks : 0.25

_____ is stating who said something. Journalists do it so that readers or listeners can know who is speaking or where the information in the story comes from.

Options :

1. ✓ Attribution
2. * Association
3. * Accommodation
4. * Assertion

Question Number : 114 Question Id : 54592744960 Question Type : MCQ Option Shuffling : Yes
Correct Marks : 1 Wrong Marks : 0.25

_____ वह कथन है जो कुछ व्यक्त करता है। पत्रकार इसे करते हैं ताकि पाठक अथवा श्रोता जान सकें कि कौन बोल रहा है और कहानी में सूचना कहां से आ रही है।

Options :

1. ✓ अधिकार (एट्रिब्यूशन)
2. * एसोसिएशन
3. * एक्कॉमोडेशन

4. * एसर्शन

Question Number : 115 Question Id : 54592744961 Question Type : MCQ Option Shuffling : Yes
Correct Marks : 1 Wrong Marks : 0.25

The collection, dissemination and analysis of news and information by the general public, especially by means of the internet is called _____.

Options :

1. * internet communication
2. ✓ citizen journalism
3. * online communication
4. * web journalism

Question Number : 115 Question Id : 54592744961 Question Type : MCQ Option Shuffling : Yes
Correct Marks : 1 Wrong Marks : 0.25

सामान्य जनता द्वारा, विशेषकर इंटरनेट के माध्यम से समाचारों का संकलन, प्रसार और विश्लेषण _____ कहलाता है।

Options :

1. * इंटरनेट संचार
2. ✓ नागरिक पत्रकारिता
3. * ऑनलाइन संचार
4. * वेब पत्रकारिता

Question Number : 116 Question Id : 54592744962 Question Type : MCQ Option Shuffling : Yes
Correct Marks : 1 Wrong Marks : 0.25

Reporters at a location remote from the newspaper, who sell occasional pieces at space rates or by the column inch are known as _____.

Options :

1. ✓ stringers
2. * correspondents

3. * special correspondents

4. * staff reporters

Question Number : 116 Question Id : 54592744962 Question Type : MCQ Option Shuffling : Yes

Correct Marks : 1 Wrong Marks : 0.25

समाचार पत्र के स्थान से सुदूर स्थान पर रिपोर्टर, जो समय-समय पर स्पेस दरों पर या कॉलम इंच के हिसाब से विशिष्ट भाग बेचते हैं, वे _____ कहलाते हैं।

Options :

1. ✓ स्ट्रिंगर्स

2. * संवाददाता

3. * विशेष संवाददाता

4. * स्टाफ रिपोर्टर

Question Number : 117 Question Id : 54592744963 Question Type : MCQ Option Shuffling : Yes

Correct Marks : 1 Wrong Marks : 0.25

The ability of the dominant classes to exercise social and cultural leadership to maintain their power over the economic, political and cultural dimensions of the nation is known as _____.

Options :

1. * coercion

2. ✓ hegemony

3. * dominant paradigm

4. * supremacy

Question Number : 117 Question Id : 54592744963 Question Type : MCQ Option Shuffling : Yes

Correct Marks : 1 Wrong Marks : 0.25

राष्ट्र के आर्थिक, राजनैतिक और सांस्कृतिक पहलुओं पर अपनी सत्ता बनाए रखने के लिए सामाजिक और सांस्कृतिक नेतृत्व का प्रयोग करने की प्रभुत्वशाली वर्ग की क्षमता, _____ कहलाती है।

Options :

1. * उत्पीड़न
2. ✓ अधिनायकवाद
3. * प्रभुत्व प्रतिमान
4. * आधिपत्य

Question Number : 118 Question Id : 54592744964 Question Type : MCQ Option Shuffling : Yes

Correct Marks : 1 Wrong Marks : 0.25

Opposed to literacy, _____ refers to those aspects of a culture's way of life that are attributable to its investment in the resources of spoken language.

Options :

1. * spoken society
2. ✓ orality
3. * visual society
4. * readability

Question Number : 118 Question Id : 54592744964 Question Type : MCQ Option Shuffling : Yes

Correct Marks : 1 Wrong Marks : 0.25

साक्षरता के विपरीत, _____ किसी सांस्कृतिक जीवन प्रकार के उन पहलुओं से संदर्भित है जिनका श्रेय बोली जाने वाली भाषा के संसाधनों में इसके निवेश को जाता है।

Options :

1. * वक्ता समाज
2. ✓ मौखिकता
3. * दृश्य समाज

4. * पठनीयता

Question Number : 119 Question Id : 54592744965 Question Type : MCQ Option Shuffling : Yes

Correct Marks : 1 Wrong Marks : 0.25

Culture based on the tastes of ordinary people rather than an educated elite is known as _____.

Options :

1. ✓ popular culture
2. * public culture
3. * elite culture
4. * culture of the oppressed

Question Number : 119 Question Id : 54592744965 Question Type : MCQ Option Shuffling : Yes

Correct Marks : 1 Wrong Marks : 0.25

शिक्षित आभिजात्य की अपेक्षा सामान्य लोगों की अभिरूचियों पर आधारित संस्कृति _____ कहलाती है।

Options :

1. ✓ लोकप्रिय संस्कृति
2. * सार्वजनिक संस्कृति
3. * आभिजात्य संस्कृति
4. * दमित की संस्कृति

Question Number : 120 Question Id : 54592744966 Question Type : MCQ Option Shuffling : Yes

Correct Marks : 1 Wrong Marks : 0.25

Biased or misleading information used to promote political cause, ideology or point of view is known as _____.

Options :

1. * politics of signification
2. ✓ propaganda
3. * ideological appropriation
4. * information signification

Question Number : 120 Question Id : 54592744966 Question Type : MCQ Option Shuffling : Yes

Correct Marks : 1 Wrong Marks : 0.25

राजनैतिक उद्देश्य, विचारधारा अथवा दृष्टिकोण का प्रचार करने के लिए प्रयुक्त पक्षपातपूर्ण या भ्रामक सूचनाएं _____ कहलाती हैं।

Options :

1. * सार्थकता की राजनीति
2. ✓ दुष्प्रचार
3. * आदर्शवादी विनियोजन
4. * सूचना सार्थकता

Discipline2

Group Number :	7
Group Id :	5459272227
Group Maximum Duration :	0
Group Minimum Duration :	0
Show Attended Group? :	No
Edit Attended Group? :	No
Break time:	0
Group Marks:	20
Is this Group for Examiner? :	No
Revisit allowed for group Instructions? :	Yes
Maximum Instruction Time:	0
Minimum Instruction Time:	0

Discipline2

Section Id :	5459272227
Section Number :	1
Section type :	Online
Mandatory or Optional:	Mandatory
Number of Questions:	20
Number of Questions to be attempted:	20
Section Marks:	20

Sub-Section Number:	1
Sub-Section Id:	5459272673
Question Shuffling Allowed :	Yes

Question Number : 121 Question Id : 54592744967 Question Type : MCQ Option Shuffling : Yes
Correct Marks : 1 Wrong Marks : 0.25

The theory that people's willingness to express their opinion on controversial public issues is affected by their largely unconscious perception of those opinions as being either popular or unpopular is known as _____.

Options :

1. ✖ cognitive dissonance
2. ✖ cognitive silence
3. ✖ spiral of dissonance
4. ✔ spiral of silence

Question Number : 121 Question Id : 54592744967 Question Type : MCQ Option Shuffling : Yes
Correct Marks : 1 Wrong Marks : 0.25

विवादित सार्वजनिक मुद्दों पर अपनी राय व्यक्त करने की लोगों की इच्छा, उन मतों के लोकप्रिय या अलोकप्रिय रूप में उनके व्यापक अवचेतन बोध से प्रभावित होती है, यह सिद्धांत _____ कहलाता है।

Options :

1. ✖ बोधात्मक असंगति
2. ✖ बोधात्मक मौन
3. ✖ असंगति कुंडली
4. ✔ मौन कुंडली

Question Number : 122 Question Id : 54592744968 Question Type : MCQ Option Shuffling : Yes
Correct Marks : 1 Wrong Marks : 0.25

_____ refers to perceived transformation among traditionally serious newspapers of news into a popularised and sensational forms.

Options :

1. ✖ Sensationalisation
2. ✔ Tabloidisation

3. * Editorialisation

4. * Sanskritisation

Question Number : 122 Question Id : 54592744968 Question Type : MCQ Option Shuffling : Yes

Correct Marks : 1 Wrong Marks : 0.25

_____ का अर्थ समाचारों के पारंपरिक गंभीर समाचारपत्रों का लोकप्रिय और सनसनीखेज स्वरूपों में माने गए रूपांतरण से संबंधित है।

Options :

1. * सेन्सेशनलाइजेशन

2. ✓ टेबलॉयडिजेशन

3. * एडिटोरियलाइजेशन

4. * संस्कृतिजेशन

Question Number : 123 Question Id : 54592744969 Question Type : MCQ Option Shuffling : Yes

Correct Marks : 1 Wrong Marks : 0.25

_____, by remaining outside of market influences, provides a much needed public forum within which information dissemination can occur, aiding in the stimulation of public debate.

Options :

1. * Commonwealth broadcasting

2. * Popular service broadcasting

3. * Corporate service broadcasting

4. ✓ Public service broadcasting

Question Number : 123 Question Id : 54592744969 Question Type : MCQ Option Shuffling : Yes

Correct Marks : 1 Wrong Marks : 0.25

_____, बाज़ार प्रभावों से बाहर रहते हुए, एक अति आवश्यक सार्वजनिक मंच प्रदान करता है, जिसमें सूचनाओं का प्रसार हो सकता है, जिससे सार्वजनिक बहसों प्रेरित करने में सहायता मिलती है।

Options :

1. ✖ कॉमनवेल्थ ब्रॉडकॉस्टिंग
2. ✖ पॉपुलर सर्विस ब्रॉडकॉस्टिंग
3. ✖ कार्पोरेट सर्विस ब्रॉडकॉस्टिंग
4. ✔ पब्लिक सर्विस ब्रॉडकॉस्टिंग

Question Number : 124 Question Id : 54592744970 Question Type : MCQ Option Shuffling : Yes
Correct Marks : 1 Wrong Marks : 0.25

This is when technology transmits digital audio and data alongside existing AM and FM analogue signals. This _____ offers FM multicasting or the ability to broadcast multiple program streams over a single FM frequency, with static-free, crystal-clear reception and a variety of data services including text-based information.

Options :

1. ✔ high definition radio
2. ✖ digital radio
3. ✖ satellite based radio
4. ✖ advanced digital radio

Question Number : 124 Question Id : 54592744970 Question Type : MCQ Option Shuffling : Yes
Correct Marks : 1 Wrong Marks : 0.25

तकनीक द्वारा डिजिटल ऑडियो और डेटा को मौजूदा AM और FM एनालॉग सिग्नलों के साथ प्रसारित करने पर ऐसा होता है। यह _____ FM बहुप्रसारण अथवा एक ही FM आवृत्ति पर स्टैटिक-रहित, क्रिस्टल-क्लीयर रिसेप्शन और टेक्स्ट-आधारित सूचना सहित विविध प्रकार की डेटा सेवाओं सहित अनेक कार्यक्रमों को प्रसारित करने की क्षमता प्रदान करता है।

Options :

1. ✔ हाई डेफिनिशन रेडियो

2. * डिजिटल रेडियो
3. * सैटेलाइट आधारित रेडियो
4. * एडवांस्ड डिजिटल रेडियो

Question Number : 125 Question Id : 54592744971 Question Type : MCQ Option Shuffling : Yes
Correct Marks : 1 Wrong Marks : 0.25

Marshall McLuhan's famous maxim, _____, refers to his belief that each medium shapes the nature of the message it is designed to deliver.

Options :

1. ✓ medium is the message
2. * medium is the market
3. * medium is the channel
4. * medium is the content

Question Number : 125 Question Id : 54592744971 Question Type : MCQ Option Shuffling : Yes
Correct Marks : 1 Wrong Marks : 0.25

मार्शन मैकलुहान का प्रसिद्ध मैक्सिम, _____, उसके इस विश्वास से संबंधित है कि प्रत्येक माध्यम, उस संदेश की प्रकृति को आकार देता है जो प्रदान करने के लिए यह डिजाइन किया गया है।

Options :

1. ✓ माध्यम संदेश है
2. * माध्यम बाज़ार है
3. * माध्यम चैनल है
4. * माध्यम विषयवस्तु है

Question Number : 126 Question Id : 54592744972 Question Type : MCQ Option Shuffling : Yes
Correct Marks : 1 Wrong Marks : 0.25

Indian State Broadcasting Service was renamed as All India Radio on June 8, _____.

Options :

1. ✖ 1947
2. ✖ 1937
3. ✖ 1927
4. ✔ 1936

Question Number : 126 Question Id : 54592744972 Question Type : MCQ Option Shuffling : Yes

Correct Marks : 1 Wrong Marks : 0.25

भारतीय राज्य प्रसारण सेवा का नया नाम ऑल इंडिया रेडियो, जून 8, _____ को रखा गया।

Options :

1. ✖ 1947
2. ✖ 1937
3. ✖ 1927
4. ✔ 1936

Question Number : 127 Question Id : 54592744973 Question Type : MCQ Option Shuffling : Yes

Correct Marks : 1 Wrong Marks : 0.25

Benjamin Day is credited with founding the 'penny press' in _____, offering police news and human-interest stories in an easy-to-read format. At this time, several new concepts took off, such as employing specialised 'reporters' and selling papers on the street rather than by subscription.

Options :

1. ✔ 1833
2. ✖ 1733
3. ✖ 1933
4. ✖ 1633

Question Number : 127 Question Id : 54592744973 Question Type : MCQ Option Shuffling : Yes

Correct Marks : 1 Wrong Marks : 0.25

बेंजामिन डे को _____ में 'पेनी प्रेस' स्थापित करने का श्रेय दिया जाता है, जो पुलिस समाचार तथा मानवीय अभिरूचि की कहानियां आसान पठनीय प्रारूप में प्रस्तुत करती है। इस समय अनेक नई अवधारणाएं प्रारंभ हुई हैं, जैसे कि विशिष्टता प्राप्त रिपोर्टरों को नियुक्त करना और सबस्क्रिप्शन के बजाय सड़कों पर अखबार बेचना।

Options :

1. ✓ 1833

2. ✗ 1733

3. ✗ 1933

4. ✗ 1633

Question Number : 128 Question Id : 54592744974 Question Type : MCQ Option Shuffling : Yes
Correct Marks : 1 Wrong Marks : 0.25

During the _____, magazines and a newly created radio industry were competing with newspapers for advertising dollars, prompting many newspapers to consolidate.

Options :

1. ✗ 1910s and 1920s

2. ✗ 1930s and 1940s

3. ✓ 1920s and 1930s

4. ✗ 1940s and 1950s

Question Number : 128 Question Id : 54592744974 Question Type : MCQ Option Shuffling : Yes
Correct Marks : 1 Wrong Marks : 0.25

_____, के दौरान पत्रिकाएं और एक नवनिर्मित रेडियो उद्योग, विज्ञापनों की आय हेतु समाचारपत्रों से स्पर्धा कर रहे थे, जिससे अनेक समाचारपत्रों का विलय हुआ।

Options :

1. ✗ 1910 का दशक और 1920 का दशक

2. ✖ 1930 का दशक और 1940 का दशक

3. ✔ 1920 का दशक और 1930 का दशक

4. ✖ 1940 का दशक और 1950 का दशक

Question Number : 129 Question Id : 54592744975 Question Type : MCQ Option Shuffling : Yes

Correct Marks : 1 Wrong Marks : 0.25

Countries with the highest newspaper readership are Sweden, Britain, Norway, Denmark, Japan and _____.

Options :

1. ✖ India

2. ✖ Russia

3. ✖ China

4. ✔ USA

Question Number : 129 Question Id : 54592744975 Question Type : MCQ Option Shuffling : Yes

Correct Marks : 1 Wrong Marks : 0.25

समाचारपत्रों की सर्वाधिक पाठक संख्या वाले देश स्वीडन, ब्रिटेन, नार्वे, डेनमार्क, जापान और _____ हैं।

Options :

1. ✖ भारत

2. ✖ रूस

3. ✖ चीन

4. ✔ संयुक्त राज्य अमेरिका

Question Number : 130 Question Id : 54592744976 Question Type : MCQ Option Shuffling : Yes

Correct Marks : 1 Wrong Marks : 0.25

The cost of reaching 1000 consumers, calculated by the cost of placing an advertisement, divided by the number of thousands of consumers it reaches is known as _____.

Options :

1. ✔ cost per thousand

2. * cost per million

3. * media reach

4. * media impact

Question Number : 130 Question Id : 54592744976 Question Type : MCQ Option Shuffling : Yes

Correct Marks : 1 Wrong Marks : 0.25

एक विज्ञापन देने की लागत को, उन उपभोक्ताओं की संख्या से विभाजित करते हुए, जिन तक यह पहुंचेगा, 1000 उपभोक्ताओं तक पहुंचने की लागत _____ कहलाती है।

Options :

1. ✓ लागत प्रति हजार

2. * लागत प्रति दस लाख

3. * मीडिया रीच

4. * मीडिया प्रभाव

Question Number : 131 Question Id : 54592744977 Question Type : MCQ Option Shuffling : Yes

Correct Marks : 1 Wrong Marks : 0.25

Exposure to an advertisement that brings about consumer awareness with little expenditure of time, money and effort is known as _____.

Options :

1. * advertisement exposure

2. * consumer awareness Ad

3. ✓ effective frequency

4. * cost effective exposure

Question Number : 131 Question Id : 54592744977 Question Type : MCQ Option Shuffling : Yes

Correct Marks : 1 Wrong Marks : 0.25

समय, धन और प्रयास के कम व्यय के साथ उपभोक्ता जागरूकता उत्पन्न करने वाले विज्ञापन से संपर्क _____ कहलाता है।

Options :

1. * विज्ञापन संपर्क
2. * उपभोक्ता जागरूकता विज्ञापन
3. ✓ प्रभावी आवृत्ति
4. * लागत कुशल संपर्क

Question Number : 132 Question Id : 54592744978 Question Type : MCQ Option Shuffling : Yes
Correct Marks : 1 Wrong Marks : 0.25

An announcement carried free by a media outlet promoting a program or project that is deemed to be of interest to the general public is called _____.

Options :

1. * cost free announcement
2. * programme promotion announcement
3. ✓ public service announcement
4. * public interest announcement

Question Number : 132 Question Id : 54592744978 Question Type : MCQ Option Shuffling : Yes
Correct Marks : 1 Wrong Marks : 0.25

सार्वजनिक हित में माने जाने वाले किसी कार्यक्रम या परियोजना के प्रचार हेतु किसी मीडिया आउटलेट द्वारा निःशुल्क की जाने वाली घोषणा _____ कहलाती है।

Options :

1. * लागत रहित घोषणा
2. * कार्यक्रम प्रचार घोषणा
3. ✓ सार्वजनिक सेवा घोषणा
4. * सार्वजनिक हित घोषणा

Question Number : 133 Question Id : 54592744979 Question Type : MCQ Option Shuffling : Yes
Correct Marks : 1 Wrong Marks : 0.25

The tendency of consumers to buy the same brands they have bought in the past is called _____.

Options :

1. ✓ brand loyalty
2. ✗ buy back loyalty
3. ✗ product loyalty
4. ✗ personal loyalty

Question Number : 133 Question Id : 54592744979 Question Type : MCQ Option Shuffling : Yes

Correct Marks : 1 Wrong Marks : 0.25

पहले खरीदे गए ब्रांडों को ही फिर से खरीदने की उपभोक्ताओं की प्रवृत्ति _____ कहलाती है।

Options :

1. ✓ ब्रांड निष्ठा
2. ✗ पुनर्खरीद निष्ठा
3. ✗ उत्पाद निष्ठा
4. ✗ व्यक्तिगत निष्ठा

Question Number : 134 Question Id : 54592744980 Question Type : MCQ Option Shuffling : Yes

Correct Marks : 1 Wrong Marks : 0.25

The rate at which users stop using an app during a specific time period is known as _____.

Options :

1. ✗ stop rate
2. ✗ app block rate
3. ✗ no business rate
4. ✓ churn rate

Question Number : 134 Question Id : 54592744980 Question Type : MCQ Option Shuffling : Yes

Correct Marks : 1 Wrong Marks : 0.25

वह दर, जिस पर उपयोक्ता एक विशिष्ट समय अवधि के दौरान किसी ऐप का उपयोग बंद कर देता है, _____ कहलाती है।

Options :

1. * स्टॉप दर
2. * एप ब्लॉक दर
3. * नो बिजनेस दर
4. ✓ चर्न दर

Question Number : 135 Question Id : 54592744981 Question Type : MCQ Option Shuffling : Yes

Correct Marks : 1 Wrong Marks : 0.25

_____ is a publication brought out by the public relations division of a corporate institution to promote the interests of internal public.

Options :

1. * Lab journal
2. ✓ House journal
3. * Public journal
4. * Corporate journal

Question Number : 135 Question Id : 54592744981 Question Type : MCQ Option Shuffling : Yes

Correct Marks : 1 Wrong Marks : 0.25

आंतरिक जनता के हितों को बढ़ावा देने के लिए किसी कार्पोरेट संस्थान की जनसंपर्क शाखा द्वारा प्रायोजित प्रकाशन _____ कहलाता है।

Options :

1. * लैब जर्नल
2. ✓ हाउस जर्नल
3. * पब्लिक जर्नल
4. * कार्पोरेट जर्नल

Question Number : 136 Question Id : 54592744982 Question Type : MCQ Option Shuffling : Yes

Correct Marks : 1 Wrong Marks : 0.25

_____ is the gap between the information rich and the information poor.

Options :

1. ✓ Digital divide
2. ✗ Digital poverty
3. ✗ Digital gap
4. ✗ Information divide

Question Number : 136 Question Id : 54592744982 Question Type : MCQ Option Shuffling : Yes

Correct Marks : 1 Wrong Marks : 0.25

सूचना समृद्ध और सूचना विपन्न के मध्य अंतराल _____ कहलाता है।

Options :

1. ✓ डिजिटल विभाजन
2. ✗ डिजिटल निर्धनता
3. ✗ डिजिटल अंतराल
4. ✗ सूचना विभाजन

Question Number : 137 Question Id : 54592744983 Question Type : MCQ Option Shuffling : Yes

Correct Marks : 1 Wrong Marks : 0.25

_____ is a version of reality enhanced by digital information (sound, images, video) often displayed as a visual overlay through a device.

Options :

1. ✓ Augmented reality
2. ✗ Digital reality
3. ✗ Enhanced reality
4. ✗ Virtual reality

Question Number : 137 Question Id : 54592744983 Question Type : MCQ Option Shuffling : Yes

Correct Marks : 1 Wrong Marks : 0.25

प्रायः एक डिवाइस के माध्यम से दृश्य अध्यारोपण के रूप में प्रदर्शित, डिजिटल सूचना (ध्वनि, छवियां, वीडियो) द्वारा संवर्धित रियलिटी का संस्करण _____ कहलाता है।

Options :

1. ✓ ऑगमेंटेड रियलिटी
2. * डिजिटल रियलिटी
3. * एन्हेंस्ड रियलिटी
4. * वर्चुअल रियलिटी

Question Number : 138 Question Id : 54592744984 Question Type : MCQ Option Shuffling : Yes

Correct Marks : 1 Wrong Marks : 0.25

_____ is an online service that allows users to organise and create stories by importing and displaying social media content such as Tweets, Facebook posts and other media.

Options :

1. ✓ Storify
2. * Storyline
3. * Storyboard
4. * Screenplay

Question Number : 138 Question Id : 54592744984 Question Type : MCQ Option Shuffling : Yes

Correct Marks : 1 Wrong Marks : 0.25

_____ एक ऑनलाइन सेवा है जो उपयोक्ताओं को सोशल मीडिया कंटेंट जैसे कि ट्वीट्स, फेसबुक पोस्ट और अन्य मीडिया को आयात और प्रदर्शित करते हुए कहानियां व्यवस्थित और निर्मित करने की सुविधा प्रदान करती है।

Options :

1. ✓ स्टोरीफाई

2. * स्टोरीलाइन

3. * स्टोरीबोर्ड

4. * स्क्रीनप्ले

Question Number : 139 Question Id : 54592744985 Question Type : MCQ Option Shuffling : Yes
Correct Marks : 1 Wrong Marks : 0.25

Content such as texts, photos, videos, etc., that is produced by users including visitors and non-experts and published often via the web or social media is known as _____.

Options :

1. * user produced content

2. ✓ user generated content

3. * user constructed content

4. * user content

Question Number : 139 Question Id : 54592744985 Question Type : MCQ Option Shuffling : Yes
Correct Marks : 1 Wrong Marks : 0.25

विजिटर्स और गैर-विशेषज्ञों सहित उपयोक्ताओं द्वारा निर्मित और प्रायः वेब अथवा सोशल मीडिया द्वारा प्रकाशित विषयवस्तु जैसे कि पाठ, फोटो, वीडियो, आदि _____ कहलाता है।

Options :

1. * उपयोक्ता द्वारा निर्मित विषयवस्तु

2. ✓ उपयोक्ता द्वारा उत्पन्न विषयवस्तु

3. * उपयोक्ता द्वारा संरचित विषयवस्तु

4. * उपयोक्ता विषयवस्तु

Question Number : 140 Question Id : 54592744986 Question Type : MCQ Option Shuffling : Yes
Correct Marks : 1 Wrong Marks : 0.25

_____ is a major approach within the participatory mode, that combines participation and two-way communication methods and tools to ensure mutual understanding, investigate key issues, minimise risks and identify best options to build a broad consensus for change as defined by the stakeholders.

Options :

1. * Two way participation
2. * Two way communication
3. * Development participation
4. ✓ Participatory communication

Question Number : 140 Question Id : 54592744986 Question Type : MCQ Option Shuffling : Yes
Correct Marks : 1 Wrong Marks : 0.25

_____ सहभागी स्वरूप में एक प्रमुख विधि है जिसमें पारस्परिक समझ सुनिश्चित करने, प्रमुख मुद्दों की पड़ताल करने, जोखिमों को कम करने, तथा हितधारकों द्वारा निर्धारित अनुसार परिवर्तन हेतु एक व्यापक सहमति बनाने के लिए सर्वोत्तम विकल्प चिन्हित करने के लिए सहभागी और दो-तरफा संचार विधियों और टूल्स का संयोजन किया जाता है।

Options :

1. * दो तरफा सहभागिता
2. * दो तरफा संचार
3. * विकास सहभागिता
4. ✓ सहभागी संचार

Discipline3

Group Id :	5459272228
Group Maximum Duration :	0
Group Minimum Duration :	0
Show Attended Group? :	No
Edit Attended Group? :	No
Break time:	0
Group Marks:	20
Is this Group for Examiner?:	No
Revisit allowed for group Instructions? :	Yes
Maximum Instruction Time:	0
Minimum Instruction Time:	0

Discipline3

Section Id :	5459272228
Section Number :	1
Section type :	Online
Mandatory or Optional:	Mandatory
Number of Questions:	20
Number of Questions to be attempted:	20
Section Marks:	20

Sub-Section Number:	1
Sub-Section Id:	5459272674
Question Shuffling Allowed :	Yes

Question Number : 141 Question Id : 54592744987 Question Type : MCQ Option Shuffling : Yes
Correct Marks : 1 Wrong Marks : 0.25

_____ is an investigative method to assess the situation related to communication issues such as audiences, media environments, communication institutional capacities, information flows and networks.

Options :

1. ✖ Development needs assessment
2. ✔ Communication needs assessment
3. ✖ Situational needs assessment
4. ✖ Media needs assessment

Question Number : 141 Question Id : 54592744987 Question Type : MCQ Option Shuffling : Yes
Correct Marks : 1 Wrong Marks : 0.25

_____ संचार के मुद्दों जैसे कि दर्शकों, मीडिया परिवेशों, संचार संस्थागत क्षमताओं, सूचना प्रवाह और नेटवर्कों से संबंधित परिस्थिति का आकलन करने के लिए एक अन्वेषणात्मक विधि है।

Options :

1. * विकास आवश्यकता मूल्यांकन
2. ✓ संचार आवश्यकता मूल्यांकन
3. * परिस्थितिगत आवश्यकता मूल्यांकन
4. * मीडिया आवश्यकता मूल्यांकन

Question Number : 142 Question Id : 54592744988 Question Type : MCQ Option Shuffling : Yes
Correct Marks : 1 Wrong Marks : 0.25

_____ is a process leading to individuals being able and willing to take part in decisions concerning their own lives. It can refer to a personal, community or institutional level.

Options :

1. * Leadership
2. ✓ Empowerment
3. * Statesmanship
4. * Community leadership

Question Number : 142 Question Id : 54592744988 Question Type : MCQ Option Shuffling : Yes
Correct Marks : 1 Wrong Marks : 0.25

_____ एक प्रक्रिया है जो व्यक्तियों को उनके अपने जीवन से संबंधित निर्णयों में भाग लेने हेतु सक्षम और इच्छुक बनाती है। यह व्यक्ति, समुदाय, या संस्थागत स्तर से संबंधित हो सकती है।

Options :

1. * नेतृत्व
2. ✓ सशक्तिकरण

3. * स्टेट्समैनशिप

4. * सामुदायिक नेतृत्व

Question Number : 143 Question Id : 54592744989 Question Type : MCQ Option Shuffling : Yes

Correct Marks : 1 Wrong Marks : 0.25

The perspective or modality rooted in the modernisation paradigm that conceives communication as an agent for the dissemination of information and innovations is known as

_____.

Options :

1. * modernisation mode

2. * dissemination mode

3. ✓ diffusion mode

4. * innovation mode

Question Number : 143 Question Id : 54592744989 Question Type : MCQ Option Shuffling : Yes

Correct Marks : 1 Wrong Marks : 0.25

आधुनिकीकरण प्रतिमान में निहित परिप्रेक्ष्य या मॉडैलिटी, जो संचार को सूचना और नवप्रवर्तन प्रसारण हेतु एक एजेंट के रूप में मानता है, _____ कहलाता है।

Options :

1. * आधुनिकीकरण स्वरूप

2. * प्रसारण स्वरूप

3. ✓ विसरण स्वरूप

4. * नवप्रवर्तन स्वरूप

Question Number : 144 Question Id : 54592744990 Question Type : MCQ Option Shuffling : Yes

Correct Marks : 1 Wrong Marks : 0.25

According to _____ principles, individuals may make copies of copyrighted material without seeking permission of the copyright holder.

Options :

1. ✖ honesty
2. ✔ fair use
3. ✖ ethical
4. ✖ constitutional

Question Number : 144 Question Id : 54592744990 Question Type : MCQ Option Shuffling : Yes

Correct Marks : 1 Wrong Marks : 0.25

_____ सिद्धांतों के अनुसार, कॉपीराइट धारक की अनुमति लिए बिना व्यक्ति, कॉपीराइट वाली सामग्री की प्रतिलिपियां बना सकते हैं।

Options :

1. ✖ ईमानदारी
2. ✔ उचित उपयोग
3. ✖ नैतिक
4. ✖ संवैधानिक

Question Number : 145 Question Id : 54592744991 Question Type : MCQ Option Shuffling : Yes

Correct Marks : 1 Wrong Marks : 0.25

Misrepresenting a person in such a way as to lower the individual in the estimation of others is known as _____.

Options :

1. ✔ defamation
2. ✖ misinformation
3. ✖ libel
4. ✖ slander

Question Number : 145 Question Id : 54592744991 Question Type : MCQ Option Shuffling : Yes

Correct Marks : 1 Wrong Marks : 0.25

किसी व्यक्ति को उसके बारे में दूसरों के परिप्रेक्ष्य से निम्नतर स्तर पर भ्रामक प्रस्तुतिकरण _____ कहलाता है।

Options :

1. ✓ मानहानि
2. ✗ भ्रामक सूचना
3. ✗ अपमानलेख
4. ✗ अपमानवचन

Question Number : 146 Question Id : 54592744992 Question Type : MCQ Option Shuffling : Yes
Correct Marks : 1 Wrong Marks : 0.25

_____ is a law that protects authors, playwrights, composers and others who construct original works and keeps others from reproducing their work without permission.

Options :

1. ✗ Intellectual property right
2. ✓ Copyright
3. ✗ Copyleft
4. ✗ Creative commons

Question Number : 146 Question Id : 54592744992 Question Type : MCQ Option Shuffling : Yes
Correct Marks : 1 Wrong Marks : 0.25

_____ एक कानून है जो मूल कृतियां सृजित करने वाले लेखकों, नाटककारों, संगीतकारों और अन्य को संरक्षित करता है और अनुमति लिए बिना उनके कार्य को अन्य व्यक्तियों द्वारा पुनरुत्पादित करने से निषेध करता है।

Options :

1. ✗ बौद्धिक संपदा अधिकार
2. ✓ कॉपीराइट
3. ✗ कॉपीलेफ्ट

4. * क्रिएटिव कॉमन्स

Question Number : 147 Question Id : 54592744993 Question Type : MCQ Option Shuffling : Yes
Correct Marks : 1 Wrong Marks : 0.25

_____ is a person within a media organisation representing readers and viewers and investigating potentially unethical conduct of the organisation and people within that organisation.

Options :

1. * Publisher
2. * Editor-in-chief
3. * Chief judicial consultant
4. ✓ Ombudsman

Question Number : 147 Question Id : 54592744993 Question Type : MCQ Option Shuffling : Yes
Correct Marks : 1 Wrong Marks : 0.25

_____ मीडिया संगठन में पाठकों और दर्शकों का प्रतिनिधित्व करने वाला एक व्यक्ति होता है और संगठन, तथा उस संगठन में लोगों द्वारा संभावित अनैतिक आचरण की जांच करता है।

Options :

1. * प्रकाशक
2. * प्रधान संपादक
3. * मुख्य न्यायिक सलाहकार
4. ✓ लोकपाल

Question Number : 148 Question Id : 54592744994 Question Type : MCQ Option Shuffling : Yes
Correct Marks : 1 Wrong Marks : 0.25

An ethical and legal area of decision making wherein the right is protected from unwarranted intrusion by the government, media or other institutions or individuals is known as _____.

Options :

1. ✖ right to life
2. ✖ right to be protected
3. ✔ right of privacy
4. ✖ right against invasion

Question Number : 148 Question Id : 54592744994 Question Type : MCQ Option Shuffling : Yes

Correct Marks : 1 Wrong Marks : 0.25

निर्णय सृजन का नैतिक और कानूनी क्षेत्र, जिसमें अधिकार को सरकार, मीडिया या अन्य संस्थाओं या व्यक्तियों द्वारा अवांछित हस्तक्षेप से संरक्षित किया जाता है _____ कहलाता है।

Options :

1. ✖ जीवन का अधिकार
2. ✖ संरक्षण का अधिकार
3. ✔ निजता का अधिकार
4. ✖ अतिक्रमण के विरुद्ध अधिकार

Question Number : 149 Question Id : 54592744995 Question Type : MCQ Option Shuffling : Yes

Correct Marks : 1 Wrong Marks : 0.25

_____ is an international news broadcasting company based in the United States and founded in 1980 which was the first to introduce a 24-hour news coverage.

Options :

1. ✔ CNN
2. ✖ Fox News
3. ✖ ABC
4. ✖ VOA

Question Number : 149 Question Id : 54592744995 Question Type : MCQ Option Shuffling : Yes

Correct Marks : 1 Wrong Marks : 0.25

_____ संयुक्त राज्य अमेरिका में स्थित और 1980 में स्थापित एक अंतर्राष्ट्रीय समाचार प्रसारण एजेंसी है, जिसने पहली बार 24-घंटे समाचार कवरेज की शुरुआत की।

Options :

1. ✓ सीएनएन
2. * फॉक्स न्यूज
3. * एबीसी
4. * वीओए

Question Number : 150 Question Id : 54592744996 Question Type : MCQ Option Shuffling : Yes

Correct Marks : 1 Wrong Marks : 0.25

_____ is an American linguist and social critic, internationally renowned for his methods of linguistic analysis and his work on power structures in media and the dangers of globalisation.

Options :

1. * Antonio Gramsci
2. ✓ Noam Chomsky
3. * Wilbur Schramm
4. * Marshall McLuhan

Question Number : 150 Question Id : 54592744996 Question Type : MCQ Option Shuffling : Yes

Correct Marks : 1 Wrong Marks : 0.25

_____ एक अमेरिकन भाषाविद और सामाजिक आलोचक है, जो अपनी भाषागत विश्लेषण विधियों, तथा मीडिया में शक्ति संरचना और वैश्वीकरण के खतरों के बारे में अपने लेखन के लिए अंतर्राष्ट्रीय स्तर पर प्रसिद्ध है।

Options :

1. * एंटोनियो ग्रामस्की

2. ✓ नोम चोमस्की

3. ✖ विल्बर स्काम

4. ✖ मार्शल मैकलुहान

Question Number : 151 Question Id : 54592744997 Question Type : MCQ Option Shuffling : Yes

Correct Marks : 1 Wrong Marks : 0.25

Power exported through modes of communication from a dominant country to others, affecting social, cultural, political and economic situations in the recipient culture or country, conquest by cultural means is known as _____.

Options :

1. ✖ media hegemony

2. ✖ media domination

3. ✖ media freedom

4. ✓ media imperialism

Question Number : 151 Question Id : 54592744997 Question Type : MCQ Option Shuffling : Yes

Correct Marks : 1 Wrong Marks : 0.25

एक प्रभुत्वशाली देश से अन्य देशों को संचार स्वरूपों के माध्यम से निर्यात शक्ति, जो सांस्कृतिक माध्यमों से विजित, प्राप्तकर्ता संस्कृति अथवा देश में सामाजिक, सांस्कृतिक, राजनैतिक और आर्थिक परिस्थितियों को प्रभावित करती है, _____ कहलाती है।

Options :

1. ✖ मीडिया आधिपत्य

2. ✖ मीडिया प्रभुत्व

3. ✖ मीडिया स्वतंत्रता

4. ✓ मीडिया साम्राज्यवाद

Question Number : 152 Question Id : 54592744998 Question Type : MCQ Option Shuffling : Yes
Correct Marks : 1 Wrong Marks : 0.25

The _____ was proposed by the United Nations Educational, Scientific and Cultural Organisation (UNESCO) in order to ensure balanced and objective news reporting on a global scale which was resisted by governments and media in the west.

Options :

1. ✓ New World Information and Communication Order
2. ✘ New Information Balancing Protocol
3. ✘ World Summit on Information Society
4. ✘ World Information Regulation Council

Question Number : 152 Question Id : 54592744998 Question Type : MCQ Option Shuffling : Yes
Correct Marks : 1 Wrong Marks : 0.25

वैश्विक पैमाने पर संतुलित और वस्तुनिष्ठ समाचार रिपोर्टिंग सुनिश्चित करने के लिए संयुक्त राष्ट्र शैक्षिक, वैज्ञानिक और सांस्कृतिक संगठन (यूनेस्को) द्वारा _____ प्रस्तावित किया गया था, जिसका पश्चिम में सरकारों और मीडिया द्वारा प्रतिरोध किया गया।

Options :

1. ✓ न्यू वर्ल्ड इन्फार्मेशन एंड कम्युनिकेशन आर्डर
2. ✘ न्यू इन्फार्मेशन बैलेंसिंग प्रोटोकॉल
3. ✘ वर्ल्ड समिट ऑन इन्फार्मेशन सोसाइटी
4. ✘ वर्ल्ड इन्फार्मेशन रेग्युलेशन काउंसिल

Question Number : 153 Question Id : 54592744999 Question Type : MCQ Option Shuffling : Yes
Correct Marks : 1 Wrong Marks : 0.25

_____ is a genre of television programming that presents purportedly unscripted situations featuring ordinary people instead of professional actors.

Options :

1. * Talk show
2. * Live programme
3. ✓ Reality TV
4. * Game show

Question Number : 153 Question Id : 54592744999 Question Type : MCQ Option Shuffling : Yes
Correct Marks : 1 Wrong Marks : 0.25

_____ टेलीविजन कार्यक्रमों की एक शैली है, जो पेशेवर कलाकारों के बजाय सामान्य लोगों को सोद्देश्यपूर्वक पटकथा रहित (अनिश्चित) परिस्थितियों में प्रदर्शित करती है।

Options :

1. * टॉक शो
2. * लाइव प्रोग्राम
3. ✓ रियलिटी टीवी
4. * गेम शो

Question Number : 154 Question Id : 54592745000 Question Type : MCQ Option Shuffling : Yes
Correct Marks : 1 Wrong Marks : 0.25

A multichannel broadcast service for television and radio transmitted via a communication satellite that subscribers receive directly on their own receivers is known as _____.

Options :

1. * satellite broadcasting service
2. ✓ direct to home
3. * subscriber direct service
4. * direct access service

Question Number : 154 Question Id : 54592745000 Question Type : MCQ Option Shuffling : Yes
Correct Marks : 1 Wrong Marks : 0.25

संचार उपग्रह के माध्यम से टेलीविजन और रेडियो हेतु प्रसारित एक बहुचैनल प्रसारण सेवा, जिसे ग्राहक सीधे अपने रिसीवरों पर प्राप्त करते हैं, _____ कहलाती है।

Options :

1. * उपग्रह प्रसारण सेवा
2. ✓ डॉयरेक्ट टू होम
3. * सबस्क्राइबर डॉयरेक्ट सर्विस
4. * डॉयरेक्ट एक्सेस सर्विस

Question Number : 155 Question Id : 54592745001 Question Type : MCQ Option Shuffling : Yes

Correct Marks : 1 Wrong Marks : 0.25

_____ refers to an activity of providing immediate audio and/or video files over the internet to subscribers for playback on mobile devices and/or personal computers.

Options :

1. ✓ Podcasting
2. * Internet radio
3. * Webcasting
4. * Web radio

Question Number : 155 Question Id : 54592745001 Question Type : MCQ Option Shuffling : Yes

Correct Marks : 1 Wrong Marks : 0.25

_____ का अर्थ मोबाइल डिवाइसों और/या निजी कम्प्यूटरों पर चलाने के लिए ग्राहकों को इंटरनेट के माध्यम से तत्काल ऑडियो और/या वीडियो फाइलें उपलब्ध कराने के क्रियाकलाप से है।

Options :

1. ✓ पॉडकॉस्टिंग
2. * इंटरनेट रेडियो
3. * वेबकॉस्टिंग

4. * वेब रेडियो

Question Number : 156 Question Id : 54592745002 Question Type : MCQ Option Shuffling : Yes
Correct Marks : 1 Wrong Marks : 0.25

The name of the inventor of the World Wide Web and director of the World Wide Web Consortium which seeks to create protocols and standards for the sharing of information is _____.

Options :

1. * Bill Gates
2. ✓ Tim Bernes Lee
3. * Tim Cook
4. * Thomas Alva Edison

Question Number : 156 Question Id : 54592745002 Question Type : MCQ Option Shuffling : Yes
Correct Marks : 1 Wrong Marks : 0.25

वर्ल्ड वाइड वेब के आविष्कर्ता और वर्ल्ड वाइड वेब कंसोर्टियम, जो सूचनाओं की साझेदारी हेतु नियम (प्रोटोकॉल) और मानक सृजित करता है, के निदेशक का नाम _____ है।

Options :

1. * बिल गेट्स
2. ✓ टिम बर्नेस ली
3. * टिम कुक
4. * थॉमस एल्वा एडिसन

Question Number : 157 Question Id : 54592745003 Question Type : MCQ Option Shuffling : Yes
Correct Marks : 1 Wrong Marks : 0.25

The Russian-born American co-founder of Google along with Lary Page is _____.

Options :

1. * Alexander Putin

2. ✖ Vladimir Lenin

3. ✔ Bin Sergey

4. ✖ Gorbachev

Question Number : 157 Question Id : 54592745003 Question Type : MCQ Option Shuffling : Yes
Correct Marks : 1 Wrong Marks : 0.25

_____ रूस में जन्मे अमेरिकी का नाम है, जिन्होंने लैरी पेज के साथ मिलकर गूगल की स्थापना की।

Options :

1. ✖ अलेक्जेंडर पुतिन

2. ✖ व्लादिमीर लेनिन

3. ✔ बिन सर्गेई

4. ✖ गोर्बाच्येव

Question Number : 158 Question Id : 54592745004 Question Type : MCQ Option Shuffling : Yes
Correct Marks : 1 Wrong Marks : 0.25

The world order in which the exchange of information more than goods, shapes, social and economic systems is popularly known as _____.

Options :

1. ✖ world information society

2. ✖ new information society

3. ✖ global communication society

4. ✔ information society

Question Number : 158 Question Id : 54592745004 Question Type : MCQ Option Shuffling : Yes
Correct Marks : 1 Wrong Marks : 0.25

वह विश्व व्यवस्था जिसमें वस्तुओं से अधिक सूचनाओं का आदान-प्रदान सामाजिक और आर्थिक प्रणालियों को आकार देता है, _____ के नाम से जानी जाती है।

Options :

1. ✖ विश्व सूचना समाज
2. ✖ नव सूचना समाज
3. ✖ वैश्विक सूचना समाज
4. ✔ सूचना समाज

Question Number : 159 Question Id : 54592745005 Question Type : MCQ Option Shuffling : Yes
Correct Marks : 1 Wrong Marks : 0.25

The name of an interface that enables a computer application to interact with another computer application is known as _____. These interfaces also save time because programmers can use predefined functions to make the programs talk to one another rather than having to write them from scratch.

Options :

1. ✔ application programming interface
2. ✖ computer to computer interface
3. ✖ programmer to computer interface
4. ✖ application computer interface

Question Number : 159 Question Id : 54592745005 Question Type : MCQ Option Shuffling : Yes
Correct Marks : 1 Wrong Marks : 0.25

वह इंटरफेस, जो कम्प्यूटर एप्लिकेशन को अन्य कम्प्यूटर एप्लिकेशन से आपसी संपर्क में सक्षम बनाता है, _____ कहलाता है। ये इंटरफेस समय की भी बचत करते हैं क्योंकि प्रोग्राम कार्य एकदम प्रारंभ से लिखने के बजाय प्रोग्रामर, पूर्व निर्धारित फंक्शनों का उपयोग करके प्रोग्रामों को परस्पर संपर्क करा सकते हैं।

Options :

1. ✔ एप्लिकेशन प्रोग्रामिंग इंटरफेस
2. ✖ कम्प्यूटर टू कम्प्यूटर इंटरफेस

3. * प्रोग्रामर टू कम्प्यूटर इंटरफेस

4. * एप्लिकेशन कम्प्यूटर इंटरफेस

Question Number : 160 Question Id : 54592745006 Question Type : MCQ Option Shuffling : Yes

Correct Marks : 1 Wrong Marks : 0.25

_____ एक प्रकार का बारकोड होता है जो कोड स्कैनर जैसे कि ऐप और स्मार्टफोन का उपयोग करके उपयोक्ता द्वारा स्कैन किया जा सकता है। कोड स्कैन करने से एक वेबपेज, वीडियो, या कोई अन्य वेब सक्षम विषयवस्तु खुल सकती है।

Options :

1. ✓ क्यूआर कोड

2. * कम्प्यूटर ऐक्सेस कोड

3. * कम्प्यूटर बार कोड

4. * क्यूएस कोड

Question Number : 160 Question Id : 54592745006 Question Type : MCQ Option Shuffling : Yes

Correct Marks : 1 Wrong Marks : 0.25

_____ is a type of barcode that can be scanned by a user with a code scanner such as an app and a smartphone. Scanning a code can bring up a webpage, a video or any other web enabled content.

Options :

1. ✓ QR code

2. * Computer access code

3. * Computer bar code

4. * QS code

Discipline4

Group Number :

9

Group Id :	5459272229
Group Maximum Duration :	0
Group Minimum Duration :	0
Show Attended Group? :	No
Edit Attended Group? :	No
Break time:	0
Group Marks:	20
Is this Group for Examiner?:	No
Revisit allowed for group Instructions? :	Yes
Maximum Instruction Time:	0
Minimum Instruction Time:	0

Discipline4

Section Id :	5459272229
Section Number :	1
Section type :	Online
Mandatory or Optional:	Mandatory
Number of Questions:	20
Number of Questions to be attempted:	20
Section Marks:	20

Sub-Section Number:	1
Sub-Section Id:	5459272675
Question Shuffling Allowed :	Yes

Question Number : 161 Question Id : 54592745007 Question Type : MCQ Option Shuffling : Yes
Correct Marks : 1 Wrong Marks : 0.25

A method being used in advertising research whereby the eye movement of subjects is recorded in order to determine which parts of the brain are activated while viewing an ad or commercial is known as _____.

Options :

1. ✖ eye analysis
2. ✔ eye tracking
3. ✖ eye watching
4. ✖ eye catching

Question Number : 161 Question Id : 54592745007 Question Type : MCQ Option Shuffling : Yes
Correct Marks : 1 Wrong Marks : 0.25

विज्ञापन अनुसंधान में प्रयुक्त की जाने वाली एक विधि जिसमें किसी विज्ञापन या कामर्शियल को देखने के दौरान व्यक्ति की आंखों की गतिशीलता रिकार्ड करके यह पता किया जाता है कि मस्तिष्क के कौन से भाग सक्रिय हैं _____ कहलाती है।

Options :

1. * आई एनालिसिस
2. ✓ आई ट्रैकिंग
3. * आई वॉचिंग
4. * आई कैचिंग

Question Number : 162 Question Id : 54592745008 Question Type : MCQ Option Shuffling : Yes

Correct Marks : 1 Wrong Marks : 0.25

A feeling of unease or discomfort arising from our expectations failing to be met or where there is discrepancy between principles and behaviour is known as _____.

Options :

1. * expectation failure
2. * cognitive resonance
3. * principle-behaviour gap
4. ✓ cognitive dissonance

Question Number : 162 Question Id : 54592745008 Question Type : MCQ Option Shuffling : Yes

Correct Marks : 1 Wrong Marks : 0.25

हमारी अपेक्षाएं पूरी न होने, या सिद्धांतों और व्यवहार के बीच विसंगति होने पर उत्पन्न होने वाली असहजता अथवा असुविधा की अनुभूति _____ कहलाती है।

Options :

1. * प्रत्याशा विफलता
2. * बोधात्मक अनुनाद

3. ✖ सिद्धांत-व्यवहार अंतराल

4. ✔ बोधात्मक असंगति

Question Number : 163 Question Id : 54592745009 Question Type : MCQ Option Shuffling : Yes

Correct Marks : 1 Wrong Marks : 0.25

Research into media effects/influence over an extended period of time, as contrasted with hierarchy studies that measure response at a specific period of time is known as _____.

Options :

1. ✔ longitudinal studies

2. ✖ hierarchical studies

3. ✖ effects studies

4. ✖ responsive studies

Question Number : 163 Question Id : 54592745009 Question Type : MCQ Option Shuffling : Yes

Correct Marks : 1 Wrong Marks : 0.25

एक निर्दिष्ट समय अवधि में प्रतिक्रिया मापने वाले पदानुक्रम अध्ययनों के विपरीत एक विस्तृत समय तक मीडिया परिणामों/प्रभावों का अध्ययन _____ कहलाता है।

Options :

1. ✔ लांगीट्यूडिनल स्टडीज

2. ✖ हायरार्किकल स्टडीज

3. ✖ इफेक्ट्स स्टडीज

4. ✖ रिस्पॉसिव स्टडीज

Question Number : 164 Question Id : 54592745010 Question Type : MCQ Option Shuffling : Yes

Correct Marks : 1 Wrong Marks : 0.25

The _____ features trimmed simpler elements with less fuss over the details. There is an economy of both design and treatment and audio-visual rules along with the rules of the story are less rigidly followed. The elements of this plot can include internal or personal progression, an open ending and multiple protagonists.

Options :

1. ✖ slim plot
2. ✔ mini plot
3. ✖ economy plot
4. ✖ progression plot

Question Number : 164 Question Id : 54592745010 Question Type : MCQ Option Shuffling : Yes
Correct Marks : 1 Wrong Marks : 0.25

_____ में अपेक्षाकृत कम अस्पष्ट विवरणों के साथ अपेक्षाकृत सरल तत्व होते हैं। डिजाइन और ट्रीटमेंट की एक इकोनॉमी होती है और ऑडियो-विजुअल नियम तथा स्टोरी के नियमों का कम दृढ़ता से पालन किया जाता है। इस प्लॉट के तत्वों (एलिमेंट्स) में आंतरिक या निजी प्रगमन, एक खुला समापन और अनेक समर्थक होते हैं।

Options :

1. ✖ स्लिम प्लॉट
2. ✔ मिनी प्लॉट
3. ✖ इकोनॉमी प्लॉट
4. ✖ प्रोग्रेशन प्लॉट

Question Number : 165 Question Id : 54592745011 Question Type : MCQ Option Shuffling : Yes
Correct Marks : 1 Wrong Marks : 0.25

The _____ reverses everything classical and contradicts most of the traditional elements of story and structure. The idea is to ridicule the very idea of formal principles. These kind of films tend to be ambitious, revolutionary and even extravagant. Their elements often include coincidence, nonlinear time and inconsistent realities.

Options :

1. * non-linear plot
2. * revolutionary plot
3. ✓ anti-plot
4. * extravagant plot

Question Number : 165 Question Id : 54592745011 Question Type : MCQ Option Shuffling : Yes

Correct Marks : 1 Wrong Marks : 0.25

_____ स्टोरी और ढांचे के प्रत्येक पारंपरिक तत्व को उत्क्रमित करता है और अधिकांश पारंपरिक तत्वों के विपरीत होता है। औपचारिक सिद्धांतों के मूल विचार का उपहास इसका विचार है। इस प्रकार की फिल्में महत्त्वाकांक्षी, क्रांतिकारी, और यहां तक कि अतिशयोक्तिपूर्ण भी होती हैं। इनके तत्वों में प्रायः सहसंयोग, अरैखिक समय और असंगत वास्तविकताएं सम्मिलित होते हैं।

Options :

1. * नॉन-लीनियर प्लॉट
2. * रिवोल्युशनरी प्लॉट
3. ✓ एंटी-प्लॉट
4. * एक्स्ट्रावैजेंट प्लॉट

Question Number : 166 Question Id : 54592745012 Question Type : MCQ Option Shuffling : Yes

Correct Marks : 1 Wrong Marks : 0.25

A _____ backs up a first-person narrative, where the person whose point of view is currently being represented visually and story-wise is the narrator. This narrator talks in terms of 'I' and brings his limited point of view across to the audience via the spoken word. This narrator is a character in the film and he may or may not be shown visually at the time his voice is heard.

Options :

1. * point of view narration
2. ✓ first-person narration
3. * visual narration
4. * limited POV narration

Question Number : 166 Question Id : 54592745012 Question Type : MCQ Option Shuffling : Yes
Correct Marks : 1 Wrong Marks : 0.25

एक _____ उत्तम पुरुष वर्णन होता है, जिसमें वह व्यक्ति जिसके दृष्टिकोण का वर्तमान में दृश्य और कथानकवार निरूपण किया जा रहा होता है वह सूत्रधार होता है। वह सूत्रधार 'मैं' के संदर्भ में बात करता है और बोले गए शब्दों द्वारा दर्शकों के समक्ष अपना सीमित दृष्टिकोण प्रस्तुत करता है। यह सूत्रधार, फिल्म में एक पात्र होता है और उसकी आवाज़ सुने जाने के दौरान वह दृश्यात्मक रूप से देखा या नहीं देखा जा सकता है।

Options :

1. * प्वाइंट ऑफ व्यू नरेशन
2. ✓ फर्स्ट-पर्सन नरेशन
3. * विजुअल नरेशन
4. * लिमिटेड पीओवी नरेशन

Question Number : 167 Question Id : 54592745013 Question Type : MCQ Option Shuffling : Yes

Correct Marks : 1 Wrong Marks : 0.25

A _____ is a conceptual map for any shooting journey. It consolidates research and outlines the film's story, providing a visual guideline for the shoot. It uses the same format and elements as a post-shoot script and can be as comprehensive or generic depending on the information available to the scriptwriter at that stage.

Options :

1. ✓ shooting script
2. ✘ screenplay
3. ✘ director's script
4. ✘ production script

Question Number : 167 Question Id : 54592745013 Question Type : MCQ Option Shuffling : Yes

Correct Marks : 1 Wrong Marks : 0.25

एक _____ किसी शूटिंग कार्यक्रम के लिए एक अवधारणात्मक मानचित्र होता है। इसमें अनुसंधान, और फिल्म की कहानी की रूपरेखा समेकित करके शूट हेतु एक दृश्य मार्गदर्शन प्रदान किया जाता है। इसमें पोस्ट-शूट स्क्रिप्ट की भांति प्रारूप और तत्वों का उपयोग होता है और उस चरण में पटकथा लेखक के पास उपलब्ध जानकारी पर निर्भरता के अनुसार समग्र या जेनेरिक हो सकता है।

Options :

1. ✓ शूटिंग स्क्रिप्ट
2. ✘ स्क्रीनप्ले
3. ✘ डायरेक्टर्स स्क्रिप्ट
4. ✘ प्रोडक्शन स्क्रिप्ट

Question Number : 168 Question Id : 54592745014 Question Type : MCQ Option Shuffling : Yes

Correct Marks : 1 Wrong Marks : 0.25

Ownership of several media outlets such as press, radio, television, etc., by one company is known as _____.

Options :

1. ✖ vertical ownership
2. ✖ multi-media ownership
3. ✔ cross-media ownership
4. ✖ group ownership

Question Number : 168 Question Id : 54592745014 Question Type : MCQ Option Shuffling : Yes

Correct Marks : 1 Wrong Marks : 0.25

एक कंपनी द्वारा अनेक मीडिया आउटलेट्स जैसे कि प्रेस, रेडियो, टेलीविजन आदि का स्वामित्व _____ कहलाता है।

Options :

1. ✖ वर्टिकल ओनरशिप
2. ✖ मल्टी-मीडिया ओनरशिप
3. ✔ क्रॉस-मीडिया ओनरशिप
4. ✖ ग्रुप ओनरशिप

Question Number : 169 Question Id : 54592745015 Question Type : MCQ Option Shuffling : Yes

Correct Marks : 1 Wrong Marks : 0.25

The role of a newspaper _____ is mostly managerial, meaning their main focus is making sure the style and content of the publication is correct. They're responsible for the overall direction of the newspaper. They also tend to the day-to-day operations of the business.

Options :

1. ✖ chief design artist
2. ✖ printer
3. ✖ chief fiscal officer
4. ✔ publisher

Question Number : 169 Question Id : 54592745015 Question Type : MCQ Option Shuffling : Yes

Correct Marks : 1 Wrong Marks : 0.25

समाचारपत्र के _____ की भूमिका प्रायः प्रबंधकीय होती है, जिसका अर्थ है कि वह मुख्य रूप से प्रकाशन की शैली और विषयवस्तु का सही होना सुनिश्चित करने पर केंद्रित होता है। वे समाचारपत्र के समग्र निर्देशन हेतु उत्तरदायी होते हैं। वे व्यवसाय के दैनिक कामकाज भी देखते हैं।

Options :

1. * चीफ डिजाइन आर्टिस्ट
2. * प्रिंटर
3. * चीफ फिस्कल ऑफिसर
4. ✓ पब्लिशर

Question Number : 170 Question Id : 54592745016 Question Type : MCQ Option Shuffling : Yes

Correct Marks : 1 Wrong Marks : 0.25

_____ refers to a media company having a presence across different media segments such as print, television, radio etc. It generates more money and makes the company more popular among readers/viewers.

Options :

1. * Online integration
2. ✓ Horizontal integration
3. * Inward integration
4. * Outward integration

Question Number : 170 Question Id : 54592745016 Question Type : MCQ Option Shuffling : Yes

Correct Marks : 1 Wrong Marks : 0.25

_____ का अर्थ किसी मीडिया कंपनी से है जो विभिन्न मीडिया वर्गों जैसे कि प्रिंट, टेलीविजन, रेडियो आदि में उपस्थित होती है। इससे अधिक राजस्व सृजित होता है और पाठकों/दर्शकों में कंपनी अधिक लोकप्रिय बनती है।

Options :

1. * ऑनलाइन इंटीग्रेशन
2. ✓ हॉरिजेंटल इंटीग्रेशन
3. * इन्वार्ड इंटीग्रेशन
4. * आउटवार्ड इंटीग्रेशन

Question Number : 171 Question Id : 54592745017 Question Type : MCQ Option Shuffling : Yes

Correct Marks : 1 Wrong Marks : 0.25

_____ refers to a media company that owns different businesses in the same chain of production and distribution.

Options :

1. * Supply chain integration
2. * Production integration
3. * Distribution integration
4. ✓ Vertical integration

Question Number : 171 Question Id : 54592745017 Question Type : MCQ Option Shuffling : Yes

Correct Marks : 1 Wrong Marks : 0.25

_____ का अर्थ किसी मीडिया कंपनी से है जिसके पास एक ही उत्पादन और वितरण श्रृंखला में विभिन्न व्यवसायों का स्वामित्व होता है।

Options :

1. * सप्लाइ चेन इंटीग्रेशन
2. * प्रोडक्शन इंटीग्रेशन

3. ✖ डिस्ट्रिब्यूशन इंटीग्रेशन

4. ✔ वर्टिकल इंटीग्रेशन

Question Number : 172 Question Id : 54592745018 Question Type : MCQ Option Shuffling : Yes

Correct Marks : 1 Wrong Marks : 0.25

The type of research that focuses on consumer and lifestyle information is known as _____. This method is applied to the study of personality, values, opinions, attitudes, interests and lifestyles.

Options :

1. ✖ demographics

2. ✔ psychographics

3. ✖ consumer analysis

4. ✖ lifestyle analysis

Question Number : 172 Question Id : 54592745018 Question Type : MCQ Option Shuffling : Yes

Correct Marks : 1 Wrong Marks : 0.25

उपभोक्ताओं और जीवनशैली की जानकारी पर केंद्रित अनुसंधान प्रकार _____ कहलाता है। यह विधि व्यक्तित्व, मूल्यों, मतों, दृष्टिकोणों, रुचियों और जीवनशैलियों के अध्ययन पर लागू होती है।

Options :

1. ✖ डेमोग्राफिक्स

2. ✔ साइकोग्राफिक्स

3. ✖ कन्ज्यूमर एनालिसिस

4. ✖ लाइफस्टाइल एनालिसिस

Question Number : 173 Question Id : 54592745019 Question Type : MCQ Option Shuffling : Yes

Correct Marks : 1 Wrong Marks : 0.25

A market structure in which a product has only one seller having the exclusive possession of the supply is known as _____.

Options :

1. * oligopoly
2. ✓ monopoly
3. * one market, one society
4. * unobtrusive access

Question Number : 173 Question Id : 54592745019 Question Type : MCQ Option Shuffling : Yes

Correct Marks : 1 Wrong Marks : 0.25

ऐसा बाज़ार ढांचा, जिसमें एक उत्पाद का केवल एक विक्रेता होता है जिसके पास आपूर्ति का विशेषाधिकार होता है, _____ कहलाता है।

Options :

1. * ओलिगोपली
2. ✓ मोनोपली
3. * वन मार्केट, वन सोसाइटी
4. * अनऑब्जुजिव एक्सेस

Question Number : 174 Question Id : 54592745020 Question Type : MCQ Option Shuffling : Yes

Correct Marks : 1 Wrong Marks : 0.25

Reporting style in which news stories are structured and presented starting with the most important items and ending with a short background piece is known as _____.

Options :

1. ✓ inverted pyramid style
2. * summary style of reporting
3. * non-linear style of reporting
4. * linear style of reporting

Question Number : 174 Question Id : 54592745020 Question Type : MCQ Option Shuffling : Yes

Correct Marks : 1 Wrong Marks : 0.25

वह रिपोर्टिंग शैली, जिसमें सबसे महत्त्वपूर्ण विवरणों से शुरूआत और लघु पृष्ठभूमि खंड के साथ समापन करते हुए समाचार कथाएं संरचित और प्रस्तुत की जाती हैं _____ कहलाती है।

Options :

1. ✓ इन्वर्टेड पिरैमिड स्टाइल
2. * समरी स्टाइल ऑफ रिपोर्टिंग
3. * नॉन-लीनियर स्टाइल ऑफ रिपोर्टिंग
4. * लीनियर स्टाइल ऑफ रिपोर्टिंग

Question Number : 175 Question Id : 54592745021 Question Type : MCQ Option Shuffling : Yes

Correct Marks : 1 Wrong Marks : 0.25

_____ is a type of journalism that attempts to make news reporting a scientific enterprise with rigorous methods such as surveys and questionnaires.

Options :

1. * Scientific journalism
2. * Methodical journalism
3. ✓ Precision journalism
4. * Enterprising journalism

Question Number : 175 Question Id : 54592745021 Question Type : MCQ Option Shuffling : Yes

Correct Marks : 1 Wrong Marks : 0.25

_____ एक प्रकार की पत्रकारिता है जिसमें सर्वेक्षण और प्रश्नावलियों जैसी अधिक कठिन विधियों का उपयोग करते हुए समाचार तैयार करते हुए किसी वैज्ञानिक उपक्रम को रिपोर्ट किया जाता है।

Options :

1. * साइंटिफिक जर्नलिज्म
2. * मेथडिकल जर्नलिज्म

3. ✓ प्रीसिजन जर्नलिज्म

4. ✖ एंटरप्राइजिंग जर्नलिज्म

Question Number : 176 Question Id : 54592745022 Question Type : MCQ Option Shuffling : Yes

Correct Marks : 1 Wrong Marks : 0.25

A small format newspaper that is roughly half the size of a standard newspaper usually containing sensational coverage of crime, scandal, gossip, violence or news about celebrities is known as _____.

Options :

1. ✖ wall paper

2. ✓ tabloid

3. ✖ small-size newspaper

4. ✖ spreadsheet

Question Number : 176 Question Id : 54592745022 Question Type : MCQ Option Shuffling : Yes

Correct Marks : 1 Wrong Marks : 0.25

एक छोटे प्रारूप वाला समाचारपत्र, जो मोटे तौर पर मानक समाचारपत्र के आकार से आधा होता है, इसमें प्रायः अपराध, स्कैंडल, गॉसिप, हिंसा आदि की सनसनीखेज कवरेज या मशहूर हस्तियों के बारे में समाचार होते हैं _____ कहलाता है।

Options :

1. ✖ वॉल पेपर

2. ✓ टेबलॉयड

3. ✖ स्माल-साइज न्यूजपेपर

4. ✖ स्प्रेडशीट

Question Number : 177 Question Id : 54592745023 Question Type : MCQ Option Shuffling : Yes

Correct Marks : 1 Wrong Marks : 0.25

_____ is a method of printing, used to achieve a relief image raised printed surface.

Options :

1. ✓ Embossing
2. ✗ Raised image printing
3. ✗ Intaglio printing
4. ✗ Gravure printing

Question Number : 177 Question Id : 54592745023 Question Type : MCQ Option Shuffling : Yes
Correct Marks : 1 Wrong Marks : 0.25

_____ प्रिंटिंग की एक विधि है, जो उभरी मुद्रित सतह पर रिलीफ इमेज प्राप्त करने के लिए उपयोग की जाती है।

Options :

1. ✓ एम्बॉसिंग
2. ✗ रेज्ड इमेज प्रिंटिंग
3. ✗ इंटेग्लिओ प्रिंटिंग
4. ✗ ग्रेवर प्रिंटिंग

Question Number : 178 Question Id : 54592745024 Question Type : MCQ Option Shuffling : Yes
Correct Marks : 1 Wrong Marks : 0.25

The space between lines of type often measured from the baseline of one line to the baseline of the next is popularly known as _____.

Options :

1. ✗ spacing
2. ✓ leading
3. ✗ inter-line demarcation
4. ✗ distantiating

Question Number : 178 Question Id : 54592745024 Question Type : MCQ Option Shuffling : Yes
Correct Marks : 1 Wrong Marks : 0.25

टाइप की लाइनों के बीच स्पेस जिसे प्रायः एक लाइन की बेसलाइन से दूसरी लाइन की बेसलाइन तक मापा जाता है, वह _____ के नाम से जाना जाता है।

Options :

1. ✖ स्पेसिंग
2. ✔ लीडिंग
3. ✖ इंटर-लाइन डिमार्केशन
4. ✖ डिस्टैंटिएटिंग

Question Number : 179 Question Id : 54592745025 Question Type : MCQ Option Shuffling : Yes
Correct Marks : 1 Wrong Marks : 0.25

According to Rogers, “Development is a widely participatory process of social change in a society intended to bring about social and material advancement, including greater equality, freedom and other valued qualities for the majority of the people through their gaining greater control over their _____”.

Options :

1. ✔ environment
2. ✖ fate
3. ✖ tradition
4. ✖ future

Question Number : 179 Question Id : 54592745025 Question Type : MCQ Option Shuffling : Yes
Correct Marks : 1 Wrong Marks : 0.25

रोजर्स के अनुसार, "विकास, किसी समाज में सामाजिक परिवर्तन की एक व्यापक सहभागी प्रक्रिया है, जो अधिकांश लोगों के लिए, उनके _____ पर अधिक नियंत्रण प्राप्त करने के माध्यम से वृहत्तर समानता, स्वतंत्रता, और अन्य मूल्यवान गुणों सहित सामाजिक और भौतिक उन्नति लाने के लिए होती है।"

Options :

1. ✓ पर्यावरण
2. * नियति
3. * परंपरा
4. * भविष्य

Question Number : 180 Question Id : 54592745026 Question Type : MCQ Option Shuffling : Yes

Correct Marks : 1 Wrong Marks : 0.25

Journalism which emerged in Asia in the aftermath of the Pacific war and colonialism was aimed at improving the social, economic and political conditions of the _____.

Options :

1. * rich and wealthy
2. * middle class
3. * women and children
4. ✓ poor people

Question Number : 180 Question Id : 54592745026 Question Type : MCQ Option Shuffling : Yes

Correct Marks : 1 Wrong Marks : 0.25

एशिया में प्रशांत युद्ध और उपनिवेशवाद के बाद उभरी पत्रकारिता, का ध्येय _____ की सामाजिक, आर्थिक और राजनैतिक दशाओं में सुधार करना था।

Options :

1. * धनी और समृद्ध

2. * मध्य वर्ग

3. * महिलाएं और बच्चे

4. ✓ निर्धन व्यक्ति

Discipline5

Group Number :	10
Group Id :	5459272230
Group Maximum Duration :	0
Group Minimum Duration :	120
Show Attended Group? :	No
Edit Attended Group? :	No
Break time:	0
Group Marks:	20
Is this Group for Examiner?:	No
Revisit allowed for group Instructions? :	Yes
Maximum Instruction Time:	0
Minimum Instruction Time:	0

Discipline5

Section Id :	5459272230
Section Number :	1
Section type :	Online
Mandatory or Optional:	Mandatory
Number of Questions:	20
Number of Questions to be attempted:	20
Section Marks:	20

Sub-Section Number:	1
Sub-Section Id:	5459272676
Question Shuffling Allowed :	Yes

Question Number : 181 Question Id : 54592745027 Question Type : MCQ Option Shuffling : Yes
Correct Marks : 1 Wrong Marks : 0.25

Stereotypes and sexist representation affect _____ as citizens and violate their human rights.

Options :

1. * men

2. * children

3. ✖ transgender

4. ✔ women

Question Number : 181 Question Id : 54592745027 Question Type : MCQ Option Shuffling : Yes

Correct Marks : 1 Wrong Marks : 0.25

रूढ़ियां (स्टीरियोटाइप) और यौन निरूपण, नागरिकों के रूप में _____ को प्रभावित करते हैं और उनके मानवाधिकारों का उल्लंघन करते हैं।

Options :

1. ✖ पुरुष

2. ✖ बच्चे

3. ✖ ट्रांसजेंडर

4. ✔ महिलाएं

Question Number : 182 Question Id : 54592745028 Question Type : MCQ Option Shuffling : Yes

Correct Marks : 1 Wrong Marks : 0.25

Given that the vast majority of information received by us is stored in our subconscious without first being consciously filtered or analysed, it is inevitable that our judgment, attitudes and behaviour are very often influenced by _____ of which we are unaware.

Options :

1. ✔ stereotypes and prejudices

2. ✖ fake messages

3. ✖ corporate cultured images

4. ✖ unbiased articulation of ideas

Question Number : 182 Question Id : 54592745028 Question Type : MCQ Option Shuffling : Yes

Correct Marks : 1 Wrong Marks : 0.25

हमारे द्वारा प्राप्त अधिकांश सूचनाएं, प्रारंभ में सजगतापूर्वक फिल्टर या विश्लेषित किए जाने के बिना हमारे अवचेतन मन में संचित होने को दृष्टिगत रखते हुए, यह अपरिहार्य है कि हमारे निर्णय, दृष्टिकोण और व्यवहार प्रायः _____ से प्रभावित होते हैं, जिनके प्रति हम अपरिचित होते हैं।

Options :

1. ✓ रूढ़ियां और पूर्वाग्रह
2. * नकली संदेश
3. * कार्पोरेट संस्कृति वाली छवियां
4. * विचारों की पक्षपातरहित अभिव्यक्ति

Question Number : 183 Question Id : 54592745029 Question Type : MCQ Option Shuffling : Yes
Correct Marks : 1 Wrong Marks : 0.25

A news website will be easy to _____ if the structure is clear and logical and if we provide links that mirror the paths readers would like to take, to get from one piece of information to the next.

Options :

1. ✓ navigate
2. * read
3. * listen
4. * watch

Question Number : 183 Question Id : 54592745029 Question Type : MCQ Option Shuffling : Yes
Correct Marks : 1 Wrong Marks : 0.25

एक समाचार वेबसाइट _____ में आसान होगी यदि संरचना स्पष्ट और तर्कसंगत है और यदि हम ऐसे लिंक उपलब्ध कराते हैं जो पाठकों को एक सूचना खंड से अन्य तक पहुंचाने के लिए मिरर का कार्य करते हैं।

Options :

1. ✓ नेविगेट करने
2. ✖ पढ़ने
3. ✖ सुनने
4. ✖ देखने

Question Number : 184 Question Id : 54592745030 Question Type : MCQ Option Shuffling : Yes
Correct Marks : 1 Wrong Marks : 0.25

_____ is the simplest form of multimedia journalism wherein a text report will appear as a screen on the website with a link to a video or audio clip.

Options :

1. ✖ Video-log
2. ✖ News-log
3. ✓ Text-plus
4. ✖ Video-plus

Question Number : 184 Question Id : 54592745030 Question Type : MCQ Option Shuffling : Yes
Correct Marks : 1 Wrong Marks : 0.25

_____ मल्टीमीडिया पत्रकारिता का सरलतम रूप है, जिसमें किसी वीडियो या ऑडियो क्लिप के लिंक के साथ टेक्स्ट रिपोर्ट, वेबसाइट पर स्क्रीन के रूप में प्रकट होती है।

Options :

1. ✖ वीडियो-लॉग
2. ✖ समाचार-लॉग
3. ✓ टेक्स्ट-प्लस
4. ✖ वीडियो-प्लस

Question Number : 185 Question Id : 54592745031 Question Type : MCQ Option Shuffling : Yes
Correct Marks : 1 Wrong Marks : 0.25

The web is a news medium without deadlines or edition times, where most things can be published more or less _____. Most newspapers and magazines have a web-first policy whereby much material is first published online.

Options :

1. * daily
2. * hourly
3. ✓ instantly
4. * weekly

Question Number : 185 Question Id : 54592745031 Question Type : MCQ Option Shuffling : Yes

Correct Marks : 1 Wrong Marks : 0.25

वेब, समयसीमाओं या संस्करण समय के बिना समाचार माध्यम है, जहां अधिकांश चीज़ें कमोवेश _____ प्रकाशित की जा सकती हैं। अधिकांश समाचारपत्रों और पत्रिकाओं की वेब-फर्स्ट नीति होती है जहां अधिकांश सामग्री पहले ऑनलाइन प्रकाशित की जाती है।

Options :

1. * दैनिक
2. * हर घंटे
3. ✓ तत्क्षण
4. * साप्ताहिक

Question Number : 186 Question Id : 54592745032 Question Type : MCQ Option Shuffling : Yes

Correct Marks : 1 Wrong Marks : 0.25

_____ is a social bookmarking service that allows you to tag, save, manage and share web pages all in one place. With emphasis on the power of the community, it greatly improves how people discover, remember and share on the internet.

Options :

1. * Twitter

2. ✖ Instagram

3. ✔ Delicious

4. ✖ Facebook

Question Number : 186 Question Id : 54592745032 Question Type : MCQ Option Shuffling : Yes
Correct Marks : 1 Wrong Marks : 0.25

_____ एक सोशल बुकमार्किंग सेवा है जो आपको एक ही स्थान पर वेब पेज टैग करने, सहेजने, प्रबंधित और साझा करने की सुविधा देती है। कम्युनिटी (समुदाय) की शक्ति पर जोर देते हुए, यह लोगों द्वारा इंटरनेट पर खोज करने, याद रखने, और साझा करने के तरीकों में काफी सुधार करती है।

Options :

1. ✖ टि्वटर

2. ✖ इंस्टाग्राम

3. ✔ डेलिशस

4. ✖ फेसबुक

Question Number : 187 Question Id : 54592745033 Question Type : MCQ Option Shuffling : Yes
Correct Marks : 1 Wrong Marks : 0.25

Development journalists write about people as subjects, actors and agents rather than as objects or victims with _____.

Options :

1. ✖ desire deficits

2. ✖ monetary deficits

3. ✔ need deficits

4. ✖ dream deficits

Question Number : 187 Question Id : 54592745033 Question Type : MCQ Option Shuffling : Yes
Correct Marks : 1 Wrong Marks : 0.25

विकास पत्रकार, लोगों के बारे में _____ के साथ ऑब्जेक्ट अथवा पीड़ितों के बजाय विषयों, कार्यकर्ताओं और एजेंटों के रूप में लिखते हैं।

Options :

1. * आकांक्षाओं का अभाव
2. * मौद्रिक अभाव
3. ✓ आवश्यकता का अभाव
4. * सपनों का अभाव

Question Number : 188 Question Id : 54592745034 Question Type : MCQ Option Shuffling : Yes

Correct Marks : 1 Wrong Marks : 0.25

The Modernisation Paradigm which originated from the works of earlier scholars namely, Daniel Lerner, Everett Rogers and Wilbur Schramm argued that poor nations could be developed by persuading individual citizens to adopt presumably more efficient _____ traditions and values.

Options :

1. * eastern
2. ✓ western
3. * southern
4. * northern

Question Number : 188 Question Id : 54592745034 Question Type : MCQ Option Shuffling : Yes

Correct Marks : 1 Wrong Marks : 0.25

आधुनिकीकरण प्रतिमान, जो पूर्ववर्ती अध्येताओं डेनियल लर्नर, एवरेट रोजर्स और विलबर स्कैम की कृतियों से उत्पन्न हुआ है, का तर्क है कि पूर्वमान्य रूप से अधिक सक्षम _____ परंपराओं और मूल्यों को अपनाने हेतु व्यक्तिगत नागरिकों को प्रेरित करते हुए निर्धन राष्ट्र, विकसित हो सकते हैं।

Options :

1. ✖ पूर्वी
2. ✔ पश्चिमी
3. ✖ दक्षिणी
4. ✖ उत्तरी

Question Number : 189 Question Id : 54592745035 Question Type : MCQ Option Shuffling : Yes
Correct Marks : 1 Wrong Marks : 0.25

Development communication has been generally referred to as the application of communication strategies and principles in pursuit of_____.

Options :

1. ✔ development
2. ✖ change
3. ✖ growth
4. ✖ modernisation

Question Number : 189 Question Id : 54592745035 Question Type : MCQ Option Shuffling : Yes
Correct Marks : 1 Wrong Marks : 0.25

विकास संचार, सामान्यतया _____ की दिशा में संचार रणनीतियों और सिद्धांतों के अनुप्रयोग के रूप में संदर्भित किया जाता है।

Options :

1. ✔ विकास
2. ✖ परिवर्तन
3. ✖ वृद्धि
4. ✖ आधुनिकीकरण

Question Number : 190 Question Id : 54592745036 Question Type : MCQ Option Shuffling : Yes
Correct Marks : 1 Wrong Marks : 0.25

The success of UNESCO-sponsored projects such as Radio Rural Forums in _____, Ghana and Costa Rica accelerated the growth and popularity of development journalism.

Options :

1. * USA
2. ✓ India
3. * Germany
4. * Sri Lanka

Question Number : 190 Question Id : 54592745036 Question Type : MCQ Option Shuffling : Yes

Correct Marks : 1 Wrong Marks : 0.25

_____, घाना और कोस्टा रिका में यूनेस्को-प्रायोजित परियोजनाओं जैसे कि रेडियो रूरल फोरम की सफलता ने विकास पत्रकारिता की वृद्धि और लोकप्रियता बढ़ाने में मदद की।

Options :

1. * अमेरिका
2. ✓ भारत
3. * जर्मनी
4. * श्रीलंका

Question Number : 191 Question Id : 54592745037 Question Type : MCQ Option Shuffling : Yes

Correct Marks : 1 Wrong Marks : 0.25

Scholars Domatob and Hall contend that development journalism had been mainly used by most African leaders to consolidate and perpetuate _____.

Options :

1. * development
2. ✓ power
3. * poverty

4. * empowerment

Question Number : 191 Question Id : 54592745037 Question Type : MCQ Option Shuffling : Yes

Correct Marks : 1 Wrong Marks : 0.25

अध्येताओं डोमाटोब और हॉल का प्रतिवाद है कि विकास पत्रकारिता मुख्यतः अधिकांश अफ्रीकी नेताओं द्वारा _____ को समेकित करने और बनाए रखने के लिए उपयोग की जाती रही थी।

Options :

1. * विकास
2. ✓ सत्ता
3. * निर्धनता
4. * सशक्तिकरण

Question Number : 192 Question Id : 54592745038 Question Type : MCQ Option Shuffling : Yes

Correct Marks : 1 Wrong Marks : 0.25

According to Siebert et al., under the authoritarian philosophy, the media is supposed to support and advance the state's policies and objectives. Consequently, the 'government say-so journalism' served the leaders' political interests more than the needs of the_____.

Options :

1. * business people
2. ✓ ordinary people
3. * educated class
4. * government servants

Question Number : 192 Question Id : 54592745038 Question Type : MCQ Option Shuffling : Yes

Correct Marks : 1 Wrong Marks : 0.25

साइबर्ट एट ऑल के अनुसार प्राधिकारवादी दर्शन के अंतर्गत मीडिया से राज्य की नीतियों और उद्देश्यों को समर्थित करने और बढ़ावा देने की अपेक्षा की जाती है। परिणामस्वरूप, 'सरकार की अभिव्यक्ति करने वाली पत्रकारिता' _____ की ज़रूरतों की अपेक्षा नेताओं के राजनैतिक हितों की अधिक पूर्ति करती है।

Options :

1. * व्यवसायी व्यक्ति
2. ✓ सामान्य व्यक्ति
3. * शिक्षित वर्ग
4. * सरकारी सेवक

Question Number : 193 Question Id : 54592745039 Question Type : MCQ Option Shuffling : Yes

Correct Marks : 1 Wrong Marks : 0.25

_____ refers to the practice of paying money to get an exclusive story that will purportedly sell many copies of a newspaper or magazine and/or bring prestige upon the journalist.

Options :

1. ✓ Chequebook journalism
2. * Promotional journalism
3. * Circulation enhancement journalism
4. * Magazine journalism

Question Number : 193 Question Id : 54592745039 Question Type : MCQ Option Shuffling : Yes

Correct Marks : 1 Wrong Marks : 0.25

_____ का अर्थ कोई एक्सक्लूसिव स्टोरी प्राप्त करने के लिए धनराशि का भुगतान करने के तरीके से है, जो किसी समाचारपत्र अथवा पत्रिका की प्रतियों की बिक्री बढ़ाने और/अथवा पत्रकार की प्रतिष्ठा बढ़ाने वाली मानी जाती है।

Options :

1. ✓ चैकबुक जर्नलिज्म
2. * प्रोमोशनल जर्नलिज्म
3. * सर्कुलेशन एन्ड्समेंट जर्नलिज्म
4. * मैगजीन जर्नलिज्म

Question Number : 194 Question Id : 54592745040 Question Type : MCQ Option Shuffling : Yes
Correct Marks : 1 Wrong Marks : 0.25

Layout of a newspaper page showing where advertising materials are to be placed is known as _____.

Options :

1. * layout
2. ✓ dummy
3. * advertisers guideline
4. * placement manual

Question Number : 194 Question Id : 54592745040 Question Type : MCQ Option Shuffling : Yes
Correct Marks : 1 Wrong Marks : 0.25

समाचारपत्र के पृष्ठ का लेआउट जो यह दर्शाता है कि विज्ञापित सामग्री कहां स्थित होगी, _____ कहलाता है।

Options :

1. * लेआउट
2. ✓ डमी
3. * एडवर्टाइजर्स गाइडलाइन
4. * प्लेसमेंट मैनुअल

Question Number : 195 Question Id : 54592745041 Question Type : MCQ Option Shuffling : Yes
Correct Marks : 1 Wrong Marks : 0.25

The box in the top corner of the front page of a newspaper used for advertising or weather information is known as _____.

Options :

1. * nose panel
2. * mouth panel
3. ✓ ear panel
4. * masthead

Question Number : 195 Question Id : 54592745041 Question Type : MCQ Option Shuffling : Yes

Correct Marks : 1 Wrong Marks : 0.25

किसी समाचारपत्र के मुख्य पृष्ठ के ऊपर कोने में बॉक्स, जिसका उपयोग विज्ञापन अथवा मौसम की जानकारी देने के लिए किया जाता है, वह _____ कहलाता है।

Options :

1. * नोज पैनल
2. * माउथ पैनल
3. ✓ इयर पैनल
4. * मास्टहेड

Question Number : 196 Question Id : 54592745042 Question Type : MCQ Option Shuffling : Yes

Correct Marks : 1 Wrong Marks : 0.25

News reporting that explains events in the light of broader social or philosophical issues is called _____.

Options :

1. * social journalism
2. * philosophical journalism
3. ✓ interpretative journalism
4. * investigative journalism

Question Number : 196 Question Id : 54592745042 Question Type : MCQ Option Shuffling : Yes
Correct Marks : 1 Wrong Marks : 0.25

व्यापक सामाजिक अथवा दार्शनिक मुद्दों के परिप्रेक्ष्य में घटनाओं की व्याख्या करने वाली समाचार रिपोर्टिंग, _____ कहलाता है।

Options :

1. * सोशल जर्नलिज्म
2. * फिलोसॉफिकल जर्नलिज्म
3. ✓ इंटरप्रेटिव जर्नलिज्म
4. * इन्वेस्टिगेटिव जर्नलिज्म

Question Number : 197 Question Id : 54592745043 Question Type : MCQ Option Shuffling : Yes
Correct Marks : 1 Wrong Marks : 0.25

A/An _____ is a single 'take' on an image. It starts and finishes at a 'cut-point' which is an editing break in the image. It is not defined by any particular image, action or event that takes place on screen.

Options :

1. * film
2. * action
3. ✓ shot
4. * episode

Question Number : 197 Question Id : 54592745043 Question Type : MCQ Option Shuffling : Yes
Correct Marks : 1 Wrong Marks : 0.25

एक _____ एक इमेज का सिंगल 'टेक' होता है। यह आरंभ होकर 'कट-प्वाइंट' पर समाप्त होता है जो इमेज में एडिटिंग ब्रेक होता है। यह स्क्रीन पर होने वाले किसी विशेष चित्र, कार्य अथवा घटना से निर्धारित नहीं होता है।

Options :

1. * फिल्म

2. ✖ एकशन

3. ✔ शॉट

4. ✖ एपिसोड

Question Number : 198 Question Id : 54592745044 Question Type : MCQ Option Shuffling : Yes

Correct Marks : 1 Wrong Marks : 0.25

A _____ is a collection of shots put together that tell a story continuously. It is an autonomous piece of the larger story of the film. An entire film is made up of a series of these collections which can be of varying durations and are connected to each other in some way.

Options :

1. ✔ sequence

2. ✖ video compilation

3. ✖ short film

4. ✖ documentary

Question Number : 198 Question Id : 54592745044 Question Type : MCQ Option Shuffling : Yes

Correct Marks : 1 Wrong Marks : 0.25

एक _____ एक साथ मिलाए गए शॉट्स का संकलन होता है जो एक अनवरत कहानी बताते हैं। यह फिल्म की अपेक्षाकृत बड़ी स्टोरी का एक स्वतंत्र खंड होता है। पूरी फिल्म इन संकलनों की श्रृंखला पर निर्मित होती है जो अलग-अलग अवधियों वाले हो सकते हैं और एक-दूसरे से किसी भांति संबंधित होते हैं।

Options :

1. ✔ सीक्वेंस

2. ✖ वीडियो कम्पाइलेशन

3. ✖ शार्ट फिल्म

4. * डॉक्युमेंट्री

Question Number : 199 Question Id : 54592745045 Question Type : MCQ Option Shuffling : Yes
Correct Marks : 1 Wrong Marks : 0.25

Narration is the sound-track commentary that sometimes accompanies a visual image in a documentary. It's also often called a _____ and it can be spoken by one or more off-screen commentators. This narration has always been a very popular tool in documentaries because it is an easy and effective way to communicate verbal information in the absence of dialogue between actors.

Options :

1. * running commentary
2. ✓ voice-over
3. * dubbing
4. * informal commentary

Question Number : 199 Question Id : 54592745045 Question Type : MCQ Option Shuffling : Yes
Correct Marks : 1 Wrong Marks : 0.25

नरेशन, साउंड-ट्रैक कमेंटरी है, जिसके साथ कभी-कभी डॉक्युमेंट्री में एक विजुअल इमेज होती है। इसे प्रायः _____ भी कहा जाता है और यह एक या अधिक ऑफ-स्क्रीन कमेंटर्स द्वारा बोली जा सकती है। यह नरेशन, डॉक्युमेंट्रीज में सदैव अत्यन्त लोकप्रिय टूल रहा है क्योंकि यह कलाकारों के बीच संवाद की अनुपस्थिति में मौखिक जानकारी संप्रेषित करने का एक आसान और प्रभावी तरीका है।

Options :

1. * रनिंग कमेंटरी
2. ✓ वॉयस-ओवर
3. * डबिंग

4. * इनफार्मल कमेंटरी

Question Number : 200 Question Id : 54592745046 Question Type : MCQ Option Shuffling : Yes
Correct Marks : 1 Wrong Marks : 0.25

A _____ is something held in common by two sequences or counters pointed between them. It helps to have a seamless progression between sequences for the entire thing to work.

Options :

1. * sequence ordering
2. * progression ordering
3. ✓ transition
4. * transfer of time series

Question Number : 200 Question Id : 54592745046 Question Type : MCQ Option Shuffling : Yes
Correct Marks : 1 Wrong Marks : 0.25

एक _____ दो सीक्वेंस में कॉमन या उनके बीच काउंटर प्वाइंटेड होता है। यह सम्पूर्ण कार्य के लिए सीक्वेंसेज के बीच निर्बाध प्रगमन में मदद करता है।

Options :

1. * सीक्वेंस आर्डरिंग
2. * प्रगेशन आर्डरिंग
3. ✓ ट्रांजिशन
4. * ट्रांसफर ऑफ टाइम सीरीज़