

## Education Consultant India Ltd.

Notations :

1.Options shown in green color and with ✓ icon are correct.

2.Options shown in red color and with ✘ icon are incorrect.

<b>Question Paper Name:</b>	Assistant Director in Community Service 19th September 2019 Shift 1
<b>Subject Name:</b>	Assistant Director in Community Service
<b>Creation Date:</b>	2019-09-19 11:26:13
<b>Duration:</b>	120
<b>Total Marks:</b>	200
<b>Display Marks:</b>	Yes
<b>Share Answer Key With Delivery Engine:</b>	No
<b>Actual Answer Key:</b>	Yes
<b>Calculator:</b>	None
<b>Magnifying Glass Required?:</b>	No
<b>Ruler Required?:</b>	No
<b>Eraser Required?:</b>	No
<b>Scratch Pad Required?:</b>	No
<b>Rough Sketch/Notepad Required?:</b>	No
<b>Protractor Required?:</b>	No
<b>Show Watermark on Console?:</b>	Yes
<b>Highlighter:</b>	No
<b>Auto Save on Console?:</b>	No

## Mental Ability

<b>Group Number :</b>	1
<b>Group Id :</b>	5459272021
<b>Group Maximum Duration :</b>	0
<b>Group Minimum Duration :</b>	0
<b>Show Attended Group? :</b>	No
<b>Edit Attended Group? :</b>	No
<b>Break time:</b>	0
<b>Group Marks:</b>	20
<b>Is this Group for Examiner?:</b>	No
<b>Revisit allowed for group Instructions? :</b>	Yes
<b>Maximum Instruction Time:</b>	0
<b>Minimum Instruction Time:</b>	0

## Mental Ability

<b>Section Id :</b>	5459272021
<b>Section Number :</b>	1

Section type :	Online
Mandatory or Optional:	Mandatory
Number of Questions:	20
Number of Questions to be attempted:	20
Section Marks:	20

Sub-Section Number:	1
Sub-Section Id:	5459272425
Question Shuffling Allowed :	Yes

Question Number : 1 Question Id : 54592740805 Question Type : MCQ Option Shuffling : Yes  
Correct Marks : 1 Wrong Marks : 0.25

Find the missing term in the following letter series:

D, H, M, S, Z, \_\_\_\_\_

Options :

1. ✘ F

2. ✘ G

3. ✔ H

4. ✘ I

Question Number : 1 Question Id : 54592740805 Question Type : MCQ Option Shuffling : Yes  
Correct Marks : 1 Wrong Marks : 0.25

निम्नलिखित अक्षर श्रृंखला में लुप्त पद ज्ञात करें।

D, H, M, S, Z, \_\_\_\_\_

Options :

1. ✘ F

2. ✘ G

3. ✔ H

4. ✘ I

Question Number : 2 Question Id : 54592740806 Question Type : MCQ Option Shuffling : Yes  
Correct Marks : 1 Wrong Marks : 0.25

Find the missing term in the following series:

R3E, T5H, V8K, \_\_\_\_\_

Options :

1. ✖ W12M
2. ✖ X11N
3. ✔ X12N
4. ✖ X11M

Question Number : 2 Question Id : 54592740806 Question Type : MCQ Option Shuffling : Yes  
Correct Marks : 1 Wrong Marks : 0.25

निम्नलिखित श्रृंखला में लुप्त पद ज्ञात करें:

R3E, T5H, V8K, \_\_\_\_\_

Options :

1. ✖ W12M
2. ✖ X11N
3. ✔ X12N
4. ✖ X11M

Question Number : 3 Question Id : 54592740807 Question Type : MCQ Option Shuffling : Yes  
Correct Marks : 1 Wrong Marks : 0.25

Out of the given options, three are similar in a certain manner. However, one option is NOT like the other three. Select the option which is different from the rest.

Options :

1. ✔ Carpenter : Saw
2. ✖ Producer : Film
3. ✖ Author : Book

## 4. \* Dramatist : Play

Question Number : 3 Question Id : 54592740807 Question Type : MCQ Option Shuffling : Yes  
Correct Marks : 1 Wrong Marks : 0.25

दिए गए विकल्पों में से, तीन एक निश्चित तरीके से समान हैं। हालाँकि, एक विकल्प अन्य तीन की तरह नहीं है। उस विकल्प का चयन करें जो बाकी से अलग है।

Options :

1. ✓ बढ़ई : आरी
2. \* निर्माता : फिल्म
3. \* लेखक : पुस्तक
4. \* नाटककार : नाटक

Question Number : 4 Question Id : 54592740808 Question Type : MCQ Option Shuffling : Yes  
Correct Marks : 1 Wrong Marks : 0.25

Out of the given options, three are similar in a certain manner. However, one option is NOT like the other three. Select the option which is different from the rest.

Options :

1. \* ELS
2. \* HOV
3. ✓ JQV
4. \* LSZ

Question Number : 4 Question Id : 54592740808 Question Type : MCQ Option Shuffling : Yes  
Correct Marks : 1 Wrong Marks : 0.25

दिए गए विकल्पों में से, तीन एक निश्चित तरीके से समान हैं। हालाँकि, एक विकल्प अन्य तीन की तरह नहीं है। उस विकल्प का चयन करें जो बाकी से अलग है।

Options :

1. ✖ ELS

2. ✖ HOV

3. ✔ JQV

4. ✖ LSZ

Question Number : 5 Question Id : 54592740809 Question Type : MCQ Option Shuffling : Yes

Correct Marks : 1 Wrong Marks : 0.25

Select the option that is related to the third term on the same basis as the second term is related to the first term.

Duck : Drake :: Bee : ?

Options :

1. ✔ Drone

2. ✖ Mare

3. ✖ Heifer

4. ✖ Vixen

Question Number : 5 Question Id : 54592740809 Question Type : MCQ Option Shuffling : Yes

Correct Marks : 1 Wrong Marks : 0.25

उस विकल्प का चयन करें जो तीसरे पद से उसी प्रकार से संबंधित है जिस प्रकार से पहला पद दूसरे पद से संबंधित है।

बत्तख : मक्खी :: मधुमक्खी : ?

Options :

1. ✔ ड्रोन

2. ✖ घोड़ी

3. ✖ हैफेर

4. ✖ लोमड़ी

Question Number : 6 Question Id : 54592740810 Question Type : MCQ Option Shuffling : Yes  
Correct Marks : 1 Wrong Marks : 0.25

Select the option that is related to the third term on the same basis as the second term is related to the first term.

KRW : MTY :: FJP : ?

Options :

1. ✖ EKS
2. ✖ GMS
3. ✔ HLR
4. ✖ FNT

Question Number : 6 Question Id : 54592740810 Question Type : MCQ Option Shuffling : Yes  
Correct Marks : 1 Wrong Marks : 0.25

उस विकल्प का चयन करें जो तीसरे पद से उसी प्रकार से संबंधित है जिस प्रकार से पहला पद दूसरे पद से संबंधित है।

KRW : MTY :: FJP : ?

Options :

1. ✖ EKS
2. ✖ GMS
3. ✔ HLR
4. ✖ FNT

Question Number : 7 Question Id : 54592740811 Question Type : MCQ Option Shuffling : Yes  
Correct Marks : 1 Wrong Marks : 0.25

If MASON is coded as JXPLK, then what is the code for RUSTY?

Options :

1. ✖ SQTVM
2. ✖ PRSTW

3. ✓ ORPQV

4. ✗ NQOSW

Question Number : 7 Question Id : 54592740811 Question Type : MCQ Option Shuffling : Yes

Correct Marks : 1 Wrong Marks : 0.25

यदि MASON को JXPLK के रूप में कोडित किया जाता है, तो RUSTY के लिए कोड क्या है?

Options :

1. ✗ SQTVM

2. ✗ PRSTW

3. ✓ ORPQV

4. ✗ NQOSW

Question Number : 8 Question Id : 54592740812 Question Type : MCQ Option Shuffling : Yes

Correct Marks : 1 Wrong Marks : 0.25

Aakriti, Prachi, Sanya, Damini and Rashi are sitting in a row. Sanya is between Damini and Aakriti, Rashi is neither at the end, nor next to Damini and is to the left of Prachi who is last. Who is to the right of Damini?

Options :

1. ✓ Sanya

2. ✗ Rashi

3. ✗ Aakriti

4. ✗ Prachi

Question Number : 8 Question Id : 54592740812 Question Type : MCQ Option Shuffling : Yes

Correct Marks : 1 Wrong Marks : 0.25

आकृति, प्राची, सान्या, दामिनी और राशी एक पंक्ति में बैठी हैं। सान्या, दामिनी और आकृति के बीच है, राशी न तो छोर पर है, न ही दामिनी के बगल में है और प्राची के बाएं ओर है जो अंत में है। दामिनी के दाहिनी तरफ कौन है?

Options :

1. ✓ सान्या
2. ✗ राशी
3. ✗ आकृति
4. ✗ प्राची

Question Number : 9 Question Id : 54592740813 Question Type : MCQ Option Shuffling : Yes  
Correct Marks : 1 Wrong Marks : 0.25

X said to Y, "You are my son's wife's father-in-law." How is Y related to X?

Options :

1. ✗ Y is the brother-in-law of X
2. ✗ Y is the father of X
3. ✗ Y is the wife of X
4. ✓ Y is the husband of X

Question Number : 9 Question Id : 54592740813 Question Type : MCQ Option Shuffling : Yes  
Correct Marks : 1 Wrong Marks : 0.25

X ने Y से कहा, "आप मेरे बेटे की पत्नी के ससुर हैं।" Y, X से कैसे संबंधित है?

Options :

1. ✗ Y, X का जीजा है।
2. ✗ Y, X का पिता है।
3. ✗ Y, X की पत्नी है।



4. ✓ Y, X का पति है।

Question Number : 10 Question Id : 54592740814 Question Type : MCQ Option Shuffling : Yes  
Correct Marks : 1 Wrong Marks : 0.25

A statement is followed by two arguments. Decide which of the arguments is/are strong with respect to the statement.

Statement:

Should sale of vital human organs be made legal in India?

Arguments:

I. No, this will lead to unhealthy practices.

II. Yes, this will bring an end to the illegal trading of human organs.

Options :

1. ✓ Both I and II are strong

2. ✗ Only II is strong

3. ✗ Only I is strong

4. ✗ None are strong

Question Number : 10 Question Id : 54592740814 Question Type : MCQ Option Shuffling : Yes  
Correct Marks : 1 Wrong Marks : 0.25

एक कथन के बाद दो तर्क दिए गए हैं। निर्धारित करें कि कथन के संबंध में कौन सा/से तर्क मजबूत हैं।

कथन:

क्या भारत में महत्वपूर्ण मानव अंगों की बिक्री को कानूनी बनाया जाना चाहिए?

तर्क:

- I. नहीं, इससे अस्वास्थ्यकर प्रथाओं को बढ़ावा मिलेगा।
- II. हां, इससे मानव अंगों के अवैध व्यापार का अंत हो जाएगा।

Options :

1. ✓ I और II दोनों मजबूत हैं।
2. \* केवल II मजबूत है।
3. \* केवल I मजबूत है।
4. \* कोई भी मजबूत नहीं है।

Question Number : 11 Question Id : 54592740815 Question Type : MCQ Option Shuffling : Yes  
Correct Marks : 1 Wrong Marks : 0.25

In the question two statements are given, followed by three conclusions, I, II and III. You have to consider the statements to be true even if it seems to be at variance from commonly known facts. You have to decide which of the given conclusions, if any, follows from the given statements.

Statement 1 : Some lizards are bats.

Statement 2 : All bats are snakes.

Conclusion I : Some lizards are snakes.

Conclusion II : No bats are lizards.

Conclusion III : Some snakes are bats.

Options :

1. ✖ Only conclusion I follows
2. ✖ Only conclusion I and II follows
3. ✔ Only conclusion I and III follows
4. ✖ Only II and III follows

Question Number : 11 Question Id : 54592740815 Question Type : MCQ Option Shuffling : Yes  
Correct Marks : 1 Wrong Marks : 0.25

इस प्रश्न में दो कथन दिए गए हैं, उसके बाद तीन निष्कर्ष I, II और III दिए गए हैं। आपको इन कथनों को सत्य मानना होगा, भले ही वे सामान्य रूप से ज्ञात तथ्यों से भिन्न प्रतीत हो रहे हों। आपको यह निर्णय करना होगा कि दिए गए निष्कर्षों में से कौन सा निष्कर्ष, यदि कोई हो, दिए गए कथनों का अनुसरण करता है।

कथन 1 : कुछ छिपकलियां चमगादड़ हैं।

कथन 2 : सभी चमगादड़ सांप हैं।

निष्कर्ष I : कुछ छिपकलियां सांप हैं।

निष्कर्ष II : कोई चमगादड़ छिपकली नहीं है।

निष्कर्ष III : कुछ सांप चमगादड़ हैं।

Options :

1. \* केवल निष्कर्ष I अनुसरण करता है।
2. \* केवल निष्कर्ष I और II अनुसरण करता है।
3. ✓ केवल निष्कर्ष I और III अनुसरण करते हैं।
4. \* केवल II और III अनुसरण करता है।

Question Number : 12 Question Id : 54592740816 Question Type : MCQ Option Shuffling : Yes

Correct Marks : 1 Wrong Marks : 0.25

Select the option that is related to the third term on the same basis as the second term is related to the first term.

21 : 441 :: 26 : ?

Options :

1. \* 675
2. \* 650

3. ✓ 676

4. ✗ 680

Question Number : 12 Question Id : 54592740816 Question Type : MCQ Option Shuffling : Yes

Correct Marks : 1 Wrong Marks : 0.25

उस विकल्प का चयन करें जो तीसरे पद से उसी प्रकार से संबंधित है जिस प्रकार से पहला पद दूसरे पद से संबंधित है।

21 : 441 :: 26 : ?

Options :

1. ✗ 675

2. ✗ 650

3. ✓ 676

4. ✗ 680

Question Number : 13 Question Id : 54592740817 Question Type : MCQ Option Shuffling : Yes

Correct Marks : 1 Wrong Marks : 0.25

Find the missing number in the following number series:

118.72, 116.34, 113.96, \_\_\_\_\_, 109.2

Options :

1. ✓ 111.58

2. ✗ 110.25

3. ✗ 111.21

4. ✗ 111.28

Question Number : 13 Question Id : 54592740817 Question Type : MCQ Option Shuffling : Yes

Correct Marks : 1 Wrong Marks : 0.25

निम्नलिखित संख्या श्रृंखला में लुप्त संख्या ज्ञात करें।

118.72, 116.34, 113.96, \_\_\_\_\_, 109.2

Options :

1. ✓ 111.58

2. ✗ 110.25

3. ✗ 111.21

4. ✗ 111.28

Question Number : 14 Question Id : 54592740818 Question Type : MCQ Option Shuffling : Yes

Correct Marks : 1 Wrong Marks : 0.25

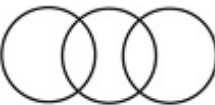
Which of the following Venn diagrams best represents the relationship between mammals, horses and animals?

Options :

1. ✓ 

2. ✗ 

3. ✗ 

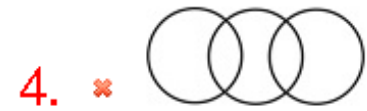
4. ✗ 

Question Number : 14 Question Id : 54592740818 Question Type : MCQ Option Shuffling : Yes

Correct Marks : 1 Wrong Marks : 0.25

निम्नलिखित में से कौन-सा वेन आरेख स्तनधारियों, घोड़ों और जानवरों के बीच के संबंध को सबसे अच्छा दर्शाता है?

Options :



Question Number : 15 Question Id : 54592740819 Question Type : MCQ Option Shuffling : Yes

Correct Marks : 1 Wrong Marks : 0.25

A man goes 5 kms south and then takes a left turn to move 12 kms. What is the minimum distance between the starting point and the point he is standing now?

Options :

1. ✗ 17 km

2. ✓ 13 km

3. ✗ 12 km

4. ✗ 10 km

Question Number : 15 Question Id : 54592740819 Question Type : MCQ Option Shuffling : Yes

Correct Marks : 1 Wrong Marks : 0.25

एक आदमी 5 km दक्षिण की ओर जाता है और फिर 12 km चलने के लिए बाएं ओर मुड़ता है। प्रारंभिक बिंदु और उस बिंदु के बीच न्यूनतम दूरी क्या है जहाँ वह अभी खड़ा है?

Options :

1. ✖ 17 km
2. ✔ 13 km
3. ✖ 12 km
4. ✖ 10 km

Question Number : 16 Question Id : 54592740820 Question Type : MCQ Option Shuffling : Yes

Correct Marks : 1 Wrong Marks : 0.25

Two men A and B start from the same point. A walks 0.15 km north, then turns to his left and walks 0.21 km. B walks 0.34 km south, then turns west and walks 0.07 km, then turns north and walks 0.11 km then turns to his left and walks 0.14 km. Where is B with respect to A now?

Options :

1. ✖ 0.38 km north
2. ✔ 0.38 km south
3. ✖ 0.08 km south
4. ✖ 0.08 km north

Question Number : 16 Question Id : 54592740820 Question Type : MCQ Option Shuffling : Yes

Correct Marks : 1 Wrong Marks : 0.25



दो पुरुष A और B एक ही बिंदु से चलना शुरू करते हैं। A 0.15 km उत्तर में चलता है, फिर बाएं ओर मुड़ता है और 0.21 km चलता है। B दक्षिण में 0.34 km चलता है, फिर पश्चिम की ओर मुड़ता है और 0.07 km चलता है, फिर उत्तर की ओर मुड़ता है और 0.11 km चलता है और फिर अपनी बाएं ओर मुड़ता है और 0.14 km चलता है। A के संबंध में B अब कहां है?

Options :

1. ✖ 0.38 km उत्तर
2. ✔ 0.38 km दक्षिण
3. ✖ 0.08 km दक्षिण
4. ✖ 0.08 km उत्तर

Question Number : 17 Question Id : 54592740821 Question Type : MCQ Option Shuffling : Yes

Correct Marks : 1 Wrong Marks : 0.25

Out of the given options, three are similar in a certain manner. However, one option is NOT like the other three. Select the option which is different from the rest.

Options :

1. ✖ 

D	D	D	D
D		D	
D	D		D
D		D	

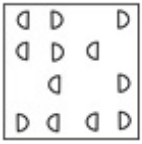
2. ✖ 

D	D	D
D		D
D	D	D
D	D	D

3. ✖ 

	D	D	D
	D		D
D		D	D
D	D		D

4. ✓



Question Number : 17 Question Id : 54592740821 Question Type : MCQ Option Shuffling : Yes

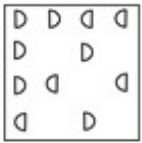
Correct Marks : 1 Wrong Marks : 0.25

दिए गए विकल्पों में से, तीन एक निश्चित तरीके से समान हैं।


हालाँकि, एक विकल्प अन्य तीन की तरह नहीं है। उस विकल्प का चयन करें जो बाकी से अलग है।

Options :

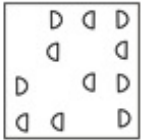
1. ✗



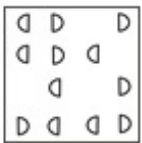
2. ✗



3. ✗



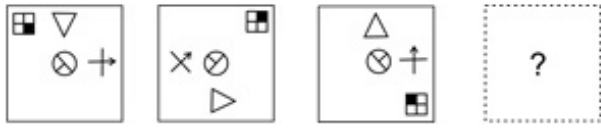
4. ✓



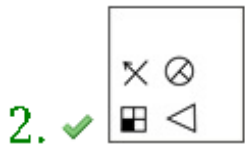
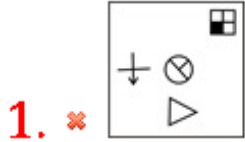
Question Number : 18 Question Id : 54592740822 Question Type : MCQ Option Shuffling : Yes

Correct Marks : 1 Wrong Marks : 0.25

Which of the following answer figure completes the series of the question figure?



Options :



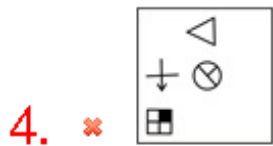
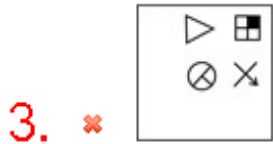
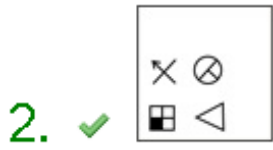
Question Number : 18 Question Id : 54592740822 Question Type : MCQ Option Shuffling : Yes

Correct Marks : 1 Wrong Marks : 0.25

निम्नलिखित में से कौन-सी उत्तर आकृति प्रश्न आकृति की श्रृंखला को पूरा करती है?

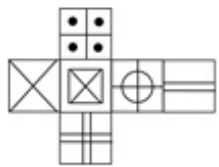


Options :



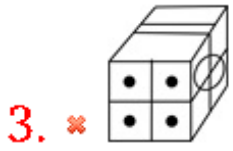
Question Number : 19 Question Id : 54592740823 Question Type : MCQ Option Shuffling : Yes  
 Correct Marks : 1 Wrong Marks : 0.25

Which of the following cubes in the answer figure CANNOT be made based on the unfolded cube in the question figure?



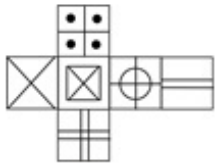
Options :



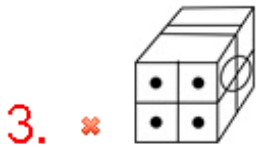


Question Number : 19 Question Id : 54592740823 Question Type : MCQ Option Shuffling : Yes  
Correct Marks : 1 Wrong Marks : 0.25

उत्तर आकृति में किस घन को प्रश्न आकृति में प्रकट घन के आधार पर नहीं बनाया जा सकता है?



Options :



Question Number : 20 Question Id : 54592740824 Question Type : MCQ Option Shuffling : Yes

Correct Marks : 1 Wrong Marks : 0.25

Which of the following answer figure completes the pattern shown in the question figure?




Options :



Question Number : 20 Question Id : 54592740824 Question Type : MCQ Option Shuffling : Yes

Correct Marks : 1 Wrong Marks : 0.25

निम्नलिखित में से कौन-सी उत्तर आकृति प्रश्न आकृति में दर्शाए गए पैटर्न को पूरा करती है?



Options :



## General Awareness

Group Number :	2
Group Id :	5459272022
Group Maximum Duration :	0
Group Minimum Duration :	0
Show Attended Group? :	No
Edit Attended Group? :	No
Break time:	0
Group Marks:	20
Is this Group for Examiner?:	No

Revisit allowed for group Instructions? :	Yes
Maximum Instruction Time:	0
Minimum Instruction Time:	0

## General Awareness

Section Id :	5459272022
Section Number :	1
Section type :	Online
Mandatory or Optional:	Mandatory
Number of Questions:	20
Number of Questions to be attempted:	20
Section Marks:	20

Sub-Section Number:	1
Sub-Section Id:	5459272426
Question Shuffling Allowed :	Yes

Question Number : 21 Question Id : 54592740825 Question Type : MCQ Option Shuffling : Yes  
Correct Marks : 1 Wrong Marks : 0.25

Which of the following dance forms is also known as Sua Lua?

Options :

1. ✓ Chang Lo
2. ✗ Phulpati
3. ✗ Cheraw
4. ✗ Parvi Nach

Question Number : 21 Question Id : 54592740825 Question Type : MCQ Option Shuffling : Yes  
Correct Marks : 1 Wrong Marks : 0.25

निम्नलिखित में से कौन सा नृत्य रूप सुआ लुआ के नाम से भी जाना जाता है?

Options :

1. ✓ चांग लो
2. ✗ फूलपति
3. ✗ चेराव
4. ✗ परवी नाच



Question Number : 22 Question Id : 54592740826 Question Type : MCQ Option Shuffling : Yes

Correct Marks : 1 Wrong Marks : 0.25

\_\_\_\_\_ songs are used to describe a woman's longing for her lover.

Options :

1. \* Birha
2. \* Tappa
3. \* Jugni
4. ✓ Kajari

Question Number : 22 Question Id : 54592740826 Question Type : MCQ Option Shuffling : Yes

Correct Marks : 1 Wrong Marks : 0.25

\_\_\_\_\_ गीतों का उपयोग किसी महिला की अपने प्रेमी की उत्कंठा का वर्णन करने के लिए किया जाता है।

Options :

1. \* बिरहा
2. \* टप्पा
3. \* जुगनी
4. ✓ कजरी

Question Number : 23 Question Id : 54592740827 Question Type : MCQ Option Shuffling : Yes

Correct Marks : 1 Wrong Marks : 0.25

Which of the following is not a method adopted by RBI to maintain the liquidity of economy?

Options :

1. \* Cash Reserve Ratio
2. \* Buying / Selling of Govt. Bonds
3. \* Repo rate
4. ✓ Buying / Selling of shares

Question Number : 23 Question Id : 54592740827 Question Type : MCQ Option Shuffling : Yes

Correct Marks : 1 Wrong Marks : 0.25

निम्नलिखित में से कौन सा एक तरीका नहीं है जो RBI द्वारा अर्थव्यवस्था की तरलता को बनाए रखने के लिए अपनाया गया है?

Options :

1. \* नकद आरक्षी अनुपात
2. \* सरकारी बांड की खरीद / बिक्री
3. \* रेपो दर
4. ✓ शेयरों की खरीद / बिक्री

Question Number : 24 Question Id : 54592740828 Question Type : MCQ Option Shuffling : Yes

Correct Marks : 1 Wrong Marks : 0.25

The minimum support prices of Bajra for 2019 - 2020 is

\_\_\_\_\_.

Options :

1. \* Rs. 1950
2. ✓ Rs. 2000
3. \* Rs. 2450
4. \* Rs. 1770

Question Number : 24 Question Id : 54592740828 Question Type : MCQ Option Shuffling : Yes

Correct Marks : 1 Wrong Marks : 0.25

2019 - 2020 के लिए बाजरा का न्यूनतम समर्थन मूल्य

\_\_\_\_\_ है।

Options :

1. \* 1950 रुपये
2. ✓ 2000 रुपये
3. \* 2450 रुपये
4. \* 1770 रुपये

Question Number : 25 Question Id : 54592740829 Question Type : MCQ Option Shuffling : Yes

Correct Marks : 1 Wrong Marks : 0.25

Purification of alcohol is an example of \_\_\_\_\_.

Options :

1. ✖ sedimentation
2. ✖ decantation
3. ✖ filtration
4. ✔ distillation

Question Number : 25 Question Id : 54592740829 Question Type : MCQ Option Shuffling : Yes

Correct Marks : 1 Wrong Marks : 0.25

शराब की शुद्धि \_\_\_\_\_ का एक उदाहरण है।

Options :

1. ✖ अवसादन
2. ✖ निस्तारण
3. ✖ निस्पंदन
4. ✔ आसवन

Question Number : 26 Question Id : 54592740830 Question Type : MCQ Option Shuffling : Yes

Correct Marks : 1 Wrong Marks : 0.25

\_\_\_\_\_ is used in moisturizing creams and soaps because of its hygroscopic properties.

Options :

1. ✔ Glycerol
2. ✖ Ethanol
3. ✖ Teflon
4. ✖ Chlorine

Question Number : 26 Question Id : 54592740830 Question Type : MCQ Option Shuffling : Yes

Correct Marks : 1 Wrong Marks : 0.25

इसके हीड्रोस्कोपिक गुण के कारण, \_\_\_\_\_ का उपयोग क्रीम और साबुन को नमी देने में किया जाता है।

Options :

1. ✓ ग्लिसरॉल

2. ✘ इथेनॉल

3. ✘ टेफ्लान

4. ✘ क्लोरीन

Question Number : 27 Question Id : 54592740831 Question Type : MCQ Option Shuffling : Yes  
Correct Marks : 1 Wrong Marks : 0.25

The common name of Tocopherol is \_\_\_\_\_.

Options :

1. ✓ Vitamin E

2. ✘ Vitamin K

3. ✘ Vitamin A

4. ✘ Vitamin C

Question Number : 27 Question Id : 54592740831 Question Type : MCQ Option Shuffling : Yes  
Correct Marks : 1 Wrong Marks : 0.25

टोकोफेरोल का सामान्य नाम \_\_\_\_\_ है।

Options :

1. ✓ विटामिन E

2. ✘ विटामिन K

3. ✘ विटामिन A

4. ✘ विटामिन C

Question Number : 28 Question Id : 54592740832 Question Type : MCQ Option Shuffling : Yes  
Correct Marks : 1 Wrong Marks : 0.25

Chambal is a tributary of \_\_\_\_\_ river.

Options :

1. ✘ Ganga

2. ✘ Brahmaputra

3. ✘ Indus

## 4. ✓ Yamuna

Question Number : 28 Question Id : 54592740832 Question Type : MCQ Option Shuffling : Yes  
Correct Marks : 1 Wrong Marks : 0.25

चंबल \_\_\_\_\_ नदी की एक सहायक नदी है।

Options :

1. ✖ गंगा
2. ✖ ब्रह्मपुत्र
3. ✖ सिंधु
4. ✓ यमुना

Question Number : 29 Question Id : 54592740833 Question Type : MCQ Option Shuffling : Yes  
Correct Marks : 1 Wrong Marks : 0.25

Drakensburg is the mountain range of \_\_\_\_\_.

Options :

1. ✖ Asia
2. ✖ Australia
3. ✖ Europe
4. ✓ Africa

Question Number : 29 Question Id : 54592740833 Question Type : MCQ Option Shuffling : Yes  
Correct Marks : 1 Wrong Marks : 0.25

ड्रेकेन्सबर्ग \_\_\_\_\_ की पर्वत श्रृंखला है।

Options :

1. ✖ एशिया
2. ✖ ऑस्ट्रेलिया
3. ✖ यूरोप
4. ✓ अफ्रीका

Question Number : 30 Question Id : 54592740834 Question Type : MCQ Option Shuffling : Yes  
Correct Marks : 1 Wrong Marks : 0.25

Which of the following crops requires water - logging for its cultivation?

Options :

1. ✖ Wheat
2. ✖ Cotton
3. ✖ Maize
4. ✔ Rice

Question Number : 30 Question Id : 54592740834 Question Type : MCQ Option Shuffling : Yes

Correct Marks : 1 Wrong Marks : 0.25

निम्नलिखित में से किस फसल को इसकी खेती के लिए जल - भराव की आवश्यकता होती है?

Options :

1. ✖ गेहूँ
2. ✖ कपास
3. ✖ मक्का
4. ✔ चावल

Question Number : 31 Question Id : 54592740835 Question Type : MCQ Option Shuffling : Yes

Correct Marks : 1 Wrong Marks : 0.25

The President of the Lahore Session of Indian National Congress of 1929 was \_\_\_\_\_.

Options :

1. ✖ Pherozeshah Mehta
2. ✖ Gopal Krishan Gokhale
3. ✖ Dadabhai Naoroji
4. ✔ Jawaharlal Nehru

Question Number : 31 Question Id : 54592740835 Question Type : MCQ Option Shuffling : Yes

Correct Marks : 1 Wrong Marks : 0.25

1929 के भारतीय राष्ट्रीय कांग्रेस के लाहौर अधिवेशन के अध्यक्ष \_\_\_\_\_ थे।

Options :

1. ✖ फिरोज़शाह मेहता
2. ✖ गोपाल कृष्ण गोखले
3. ✖ दादाभाई नौरोजी
4. ✔ जवाहरलाल नेहरू

Question Number : 32 Question Id : 54592740836 Question Type : MCQ Option Shuffling : Yes  
Correct Marks : 1 Wrong Marks : 0.25

\_\_\_\_\_ was the successor of Chandragupta I.

Options :

1. ✖ Vishnugupta
2. ✖ Chandragupta II
3. ✔ Samudragupta
4. ✖ Skandagupta

Question Number : 32 Question Id : 54592740836 Question Type : MCQ Option Shuffling : Yes  
Correct Marks : 1 Wrong Marks : 0.25

\_\_\_\_\_ चंद्रगुप्त I का उत्तराधिकारी था।

Options :

1. ✖ विष्णुगुप्त
2. ✖ चन्द्रगुप्त II
3. ✔ समुद्रगुप्त
4. ✖ स्कन्दगुप्त

Question Number : 33 Question Id : 54592740837 Question Type : MCQ Option Shuffling : Yes  
Correct Marks : 1 Wrong Marks : 0.25

When was the Battle of Buxar fought?

Options :

1. ✓ 1764

2. ✗ 1802

3. ✗ 1857

4. ✗ 1902

Question Number : 33 Question Id : 54592740837 Question Type : MCQ Option Shuffling : Yes  
Correct Marks : 1 Wrong Marks : 0.25

बक्सर का युद्ध कब लड़ा गया था?

Options :

1. ✓ 1764

2. ✗ 1802

3. ✗ 1857

4. ✗ 1902

Question Number : 34 Question Id : 54592740838 Question Type : MCQ Option Shuffling : Yes  
Correct Marks : 1 Wrong Marks : 0.25

Which of the following books is not written by Salman Rushdie?

Options :

1. ✗ Midnight's Children

2. ✗ Shame

3. ✗ Fury

4. ✓ The White Tiger

Question Number : 34 Question Id : 54592740838 Question Type : MCQ Option Shuffling : Yes  
Correct Marks : 1 Wrong Marks : 0.25

निम्नलिखित में से कौन सी पुस्तक सलमान रुश्दी द्वारा नहीं लिखी गई है?

Options :

1. ✗ मिडनाइट चिल्ड्रन



2. \* शेम

3. \* फ्यूरी

4. ✓ द व्हाइट टाइगर

Question Number : 35 Question Id : 54592740839 Question Type : MCQ Option Shuffling : Yes  
Correct Marks : 1 Wrong Marks : 0.25

Which of the following films won the filmfare award 2019?

Options :

1. \* Badhaai Ho

2. \* Andhadhun

3. \* Sanju

4. ✓ Raazi

Question Number : 35 Question Id : 54592740839 Question Type : MCQ Option Shuffling : Yes  
Correct Marks : 1 Wrong Marks : 0.25

निम्नलिखित में से किस फिल्म ने फिल्मफेयर अवार्ड 2019 जीता?

Options :

1. \* बधाई हो

2. \* अंधाधुन

3. \* संजू

4. ✓ राज़ी

Question Number : 36 Question Id : 54592740840 Question Type : MCQ Option Shuffling : Yes  
Correct Marks : 1 Wrong Marks : 0.25

The headquarters of United Nations Organization is located in

\_\_\_\_\_.

Options :

1. ✓ New York

2. \* Washington

3. \* Geneva

## 4. \* Paris

Question Number : 36 Question Id : 54592740840 Question Type : MCQ Option Shuffling : Yes  
Correct Marks : 1 Wrong Marks : 0.25

संयुक्त राष्ट्र संगठन का मुख्यालय \_\_\_\_\_ में स्थित है।

Options :

1. ✓ न्यूयॉर्क
2. \* वॉशिंगटन
3. \* जिनेवा
4. \* पेरिस

Question Number : 37 Question Id : 54592740841 Question Type : MCQ Option Shuffling : Yes  
Correct Marks : 1 Wrong Marks : 0.25

Which of the following Articles deals with abolition of titles?

Options :

1. \* 14
2. \* 15
3. \* 17
4. ✓ 18

Question Number : 37 Question Id : 54592740841 Question Type : MCQ Option Shuffling : Yes  
Correct Marks : 1 Wrong Marks : 0.25

निम्नलिखित में से कौन सा लेख शीर्षकों के उन्मूलन से संबंधित है?

Options :

1. \* 14
2. \* 15
3. \* 17
4. ✓ 18

Question Number : 38 Question Id : 54592740842 Question Type : MCQ Option Shuffling : Yes  
Correct Marks : 1 Wrong Marks : 0.25

\_\_\_\_\_ Amendment incorporated Dadra, Nagar and Haveli as a Union Territory.

Options :

1. ✖ 8th
2. ✖ 13th
3. ✔ 10th
4. ✖ 15th

Question Number : 38 Question Id : 54592740842 Question Type : MCQ Option Shuffling : Yes  
Correct Marks : 1 Wrong Marks : 0.25

\_\_\_\_\_ संशोधन ने केंद्र शासित प्रदेश के रूप में दादरा, नगर और हवेली को शामिल किया।

Options :

1. ✖ 8वीं
2. ✖ 13वीं
3. ✔ 10वीं
4. ✖ 15वीं

Question Number : 39 Question Id : 54592740843 Question Type : MCQ Option Shuffling : Yes  
Correct Marks : 1 Wrong Marks : 0.25

\_\_\_\_\_ has the highest total career runs in the Test Cricket.

Options :

1. ✔ Sachin Tendulkar
2. ✖ Ricky Ponting
3. ✖ Brian Lara
4. ✖ Kumar Sangakkara

Question Number : 39 Question Id : 54592740843 Question Type : MCQ Option Shuffling : Yes  
Correct Marks : 1 Wrong Marks : 0.25

टेस्ट क्रिकेट में सबसे अधिक कुल रन \_\_\_\_\_ के हैं।

Options :

1. ✓ सचिन तेंदुलकर
2. ✘ रिकी पॉटिंग
3. ✘ ब्रायन लारा
4. ✘ कुमार संगकारा

Question Number : 40 Question Id : 54592740844 Question Type : MCQ Option Shuffling : Yes

Correct Marks : 1 Wrong Marks : 0.25

Who among the following bowlers has the highest wickets in the One Day Internationals format?

Options :

1. ✘ Shane Warne
2. ✘ Wasim Akram
3. ✓ Muttiah Muralitharan
4. ✘ Anil Kumble

Question Number : 40 Question Id : 54592740844 Question Type : MCQ Option Shuffling : Yes

Correct Marks : 1 Wrong Marks : 0.25

निम्नलिखित गेंदबाजों में से किसने एक दिवसीय अंतर्राष्ट्रीय प्रारूप में सर्वाधिक विकेट लिए हैं?

Options :

1. ✘ शेन वॉर्न
2. ✘ वसीम अकरम
3. ✓ मुथैया मुरलीधरन
4. ✘ अनिल कुंबले

## Arithmetic Ability

Group Number :

3

Group Id :

5459272023

Group Maximum Duration :

0

Group Minimum Duration :	0
Show Attended Group? :	No
Edit Attended Group? :	No
Break time:	0
Group Marks:	20
Is this Group for Examiner?:	No
Revisit allowed for group Instructions? :	Yes
Maximum Instruction Time:	0
Minimum Instruction Time:	0

## Arithmetic Ability

Section Id :	5459272023
Section Number :	1
Section type :	Online
Mandatory or Optional:	Mandatory
Number of Questions:	20
Number of Questions to be attempted:	20
Section Marks:	20

Sub-Section Number:	1
Sub-Section Id:	5459272427
Question Shuffling Allowed :	Yes

Question Number : 41 Question Id : 54592740845 Question Type : MCQ Option Shuffling : Yes  
Correct Marks : 1 Wrong Marks : 0.25

Simplify:  $2\sqrt{49} - 3\sqrt{9} + 12\sqrt{81} - 4\sqrt{289}$

Options :

1. ✖ 17

2. ✖ 33

3. ✖ 24

4. ✔ 45

Question Number : 41 Question Id : 54592740845 Question Type : MCQ Option Shuffling : Yes  
Correct Marks : 1 Wrong Marks : 0.25

सरल करे:  $2\sqrt{49} - 3\sqrt{9} + 12\sqrt{81} - 4\sqrt{289}$

Options :

1. ✖ 17

2. ✖ 33

3. ✖ 24

4. ✔ 45

Question Number : 42 Question Id : 54592740846 Question Type : MCQ Option Shuffling : Yes

Correct Marks : 1 Wrong Marks : 0.25

Ashok ate  $\frac{1}{8}$  part of a cake while his sister Soniya ate  $\frac{3}{7}$  of the remaining. The part of the cake that is left is \_\_\_\_\_.

Options :

1. ✖  $\frac{9}{8}$

2. ✖  $\frac{2}{7}$

3. ✖  $\frac{4}{7}$

4. ✔  $\frac{1}{2}$

Question Number : 42 Question Id : 54592740846 Question Type : MCQ Option Shuffling : Yes

Correct Marks : 1 Wrong Marks : 0.25

अशोक ने एक केक का  $\frac{1}{8}$  भाग खाया, जबकि उसकी बहन सोनिया ने शेष का  $\frac{3}{7}$  खाया। बचे हुए केक का हिस्सा \_\_\_\_\_ है।

Options :

1. ✖  $\frac{9}{8}$

2. ✖  $\frac{2}{7}$

3. ✖  $\frac{4}{7}$

4. ✔  $\frac{1}{2}$

Question Number : 43 Question Id : 54592740847 Question Type : MCQ Option Shuffling : Yes

Correct Marks : 1 Wrong Marks : 0.25

Simplify:  $12.0012 + 0.12 + 120.12 + 0.012$

Options :

1. ✖ 1.32048

2. ✔ 132.2532

3. ✖ 13.20328

4. ✖ 132.0548

Question Number : 43 Question Id : 54592740847 Question Type : MCQ Option Shuffling : Yes  
Correct Marks : 1 Wrong Marks : 0.25

सरल करें:  $12.0012 + 0.12 + 120.12 + 0.012$

Options :

1. ✖ 1.32048

2. ✔ 132.2532

3. ✖ 13.20328

4. ✖ 132.0548

Question Number : 44 Question Id : 54592740848 Question Type : MCQ Option Shuffling : Yes  
Correct Marks : 1 Wrong Marks : 0.25

Simplify:  $(9 \times 9\sqrt{625} - 8 \times 8 \sqrt{225}) \div (64 \div 4 + 56 \div 8 - 8)$

Options :

1. ✖ 59

2. ✖ 53

3. ✖ 64

4. ✔ 71

Question Number : 44 Question Id : 54592740848 Question Type : MCQ Option Shuffling : Yes  
Correct Marks : 1 Wrong Marks : 0.25

सरल करें:  $(9 \times 9\sqrt{625} - 8 \times 8 \sqrt{225}) \div (64 \div 4 + 56 \div 8 - 8)$

Options :

1. ✖ 59

2. ✖ 53

3. ✖ 64

4. ✔ 71

Question Number : 45 Question Id : 54592740849 Question Type : MCQ Option Shuffling : Yes

Correct Marks : 1 Wrong Marks : 0.25

The expression  $(4.08 \times 4.08 + 4.08 \times A + 5.12 \times 5.12)$  will be a perfect square if A is equal to:

Options :

1. ✖ 10.2
2. ✖ 10.02
3. ✔ 10.24
4. ✖ 10.42

Question Number : 45 Question Id : 54592740849 Question Type : MCQ Option Shuffling : Yes

Correct Marks : 1 Wrong Marks : 0.25

यदि A, \_\_\_\_\_ के बराबर है तो  $(4.08 \times 4.08 + 4.08 \times A + 5.12 \times 5.12)$  एक पूर्ण वर्ग होगा।

Options :

1. ✖ 10.2
2. ✖ 10.02
3. ✔ 10.24
4. ✖ 10.42

Question Number : 46 Question Id : 54592740850 Question Type : MCQ Option Shuffling : Yes

Correct Marks : 1 Wrong Marks : 0.25

The average age of the three girls is 15 years and their ages are in proportion 4 : 5 : 6. What is the age in years of the youngest girl?

Options :

1. ✔ 12 years
2. ✖ 15 years
3. ✖ 18 years
4. ✖ 9 years

Question Number : 46 Question Id : 54592740850 Question Type : MCQ Option Shuffling : Yes



Correct Marks : 1 Wrong Marks : 0.25

तीनों लड़कियों की औसत आयु 15 वर्ष है और उनकी आयु 4 : 5 : 6 के अनुपात में है। सबसे कम उम्र की लड़की की उम्र क्या है?

Options :

1. ✓ 12 वर्ष
2. ✗ 15 वर्ष
3. ✗ 18 वर्ष
4. ✗ 9 वर्ष

Question Number : 47 Question Id : 54592740851 Question Type : MCQ Option Shuffling : Yes

Correct Marks : 1 Wrong Marks : 0.25

A number on subtracting 18 from it, reduces to its 80%, what is 30% of the number?

Options :

1. ✗ 21
2. ✗ 60
3. ✗ 42
4. ✓ 27

Question Number : 47 Question Id : 54592740851 Question Type : MCQ Option Shuffling : Yes

Correct Marks : 1 Wrong Marks : 0.25

18 घटाने पर एक संख्या, 80% तक कम हो जाती है, संख्या का 30% कितना है?

Options :

1. ✗ 21
2. ✗ 60
3. ✗ 42
4. ✓ 27

Question Number : 48 Question Id : 54592740852 Question Type : MCQ Option Shuffling : Yes

Correct Marks : 1 Wrong Marks : 0.25

If A's height is 35% less than that of B. How much percent B's height is more than that of A?

Options :

1. ✖ 48.65 percentage
2. ✖ 39.79 percentage
3. ✔ 53.84 percentage
4. ✖ 42.87 percentage

Question Number : 48 Question Id : 54592740852 Question Type : MCQ Option Shuffling : Yes

Correct Marks : 1 Wrong Marks : 0.25

यदि A की ऊँचाई B की तुलना में 35% कम है तो B की ऊँचाई A की तुलना में कितने प्रतिशत अधिक है?

Options :

1. ✖ 48.65 प्रतिशत
2. ✖ 39.79 प्रतिशत
3. ✔ 53.84 प्रतिशत
4. ✖ 42.87 प्रतिशत

Question Number : 49 Question Id : 54592740853 Question Type : MCQ Option Shuffling : Yes

Correct Marks : 1 Wrong Marks : 0.25

The fruit seller bought some Mangoes at the rate of 250 for Rs. 5500 and sold them at 180 for Rs. 4500. Find the gain or loss percentage.

Options :

1. ✔ Gain 13.63 percentage
2. ✖ Gain 31.36 percentage
3. ✖ Loss 27.88 percentage
4. ✖ Loss 19.29 percentage

Question Number : 49 Question Id : 54592740853 Question Type : MCQ Option Shuffling : Yes

Correct Marks : 1 Wrong Marks : 0.25

फल विक्रेता ने 250 रुपये की दर से 5500 रुपये में कुछ आम खरीदे और उन्हें 180 रुपये की दर से 4500 रुपये में बेच दिया। लाभ या हानि प्रतिशत ज्ञात करें।

Options :

1. ✓ 13.63% लाभ
2. ✗ 31.36% लाभ
3. ✗ 27.88% हानि
4. ✗ 19.29% हानि

Question Number : 50 Question Id : 54592740854 Question Type : MCQ Option Shuffling : Yes

Correct Marks : 1 Wrong Marks : 0.25

The compounded ratio of (1 : 2), (6 : 7), (14 : 15) is:

Options :

1. ✗  $1/4$
2. ✗  $3/5$
3. ✗  $2/7$
4. ✓  $2/5$

Question Number : 50 Question Id : 54592740854 Question Type : MCQ Option Shuffling : Yes

Correct Marks : 1 Wrong Marks : 0.25

(1 : 2), (6 : 7), (14 : 15) का यौगिक अनुपात है।

Options :

1. ✗  $1/4$
2. ✗  $3/5$
3. ✗  $2/7$
4. ✓  $2/5$

Question Number : 51 Question Id : 54592740855 Question Type : MCQ Option Shuffling : Yes

Correct Marks : 1 Wrong Marks : 0.25

A mixture contains alcohol and water in the ratio 7 : 4. If 6 litres of water is added to the mixture, the ratio becomes 7 : 5. Find the quantity of alcohol in the given mixture.

Options :

1. ✖ 40 litres
2. ✖ 41 litres
3. ✔ 42 litres
4. ✖ 43 litres

Question Number : 51 Question Id : 54592740855 Question Type : MCQ Option Shuffling : Yes

Correct Marks : 1 Wrong Marks : 0.25

एक मिश्रण में 7 : 4 के अनुपात में अल्कोहल और पानी है। यदि मिश्रण में 6 लीटर पानी डाला जाता है, तो अनुपात 7 : 5 हो जाता है। दिए गए मिश्रण में अल्कोहल की मात्रा को ज्ञात करें।

Options :

1. ✖ 40 लीटर
2. ✖ 41 लीटर
3. ✔ 42 लीटर
4. ✖ 43 लीटर

Question Number : 52 Question Id : 54592740856 Question Type : MCQ Option Shuffling : Yes

Correct Marks : 1 Wrong Marks : 0.25

A sum of Rs. 25,000 amounts to Rs. 28,900 in 6 years at the rate of simple interest. What is the rate of interest?

Options :

1. ✖ 2 percentage
2. ✖ 2.40 percentage
3. ✔ 2.60 percentage
4. ✖ 2.90 percentage

Question Number : 52 Question Id : 54592740856 Question Type : MCQ Option Shuffling : Yes  
Correct Marks : 1 Wrong Marks : 0.25

25,000 रुपये की राशि साधारण ब्याज से 6 वर्षों में 28,900 रुपये हो जाती है। ब्याज दर क्या है?

Options :

1. \* 2 प्रतिशत
2. \* 2.40 प्रतिशत
3. ✓ 2.60 प्रतिशत
4. \* 2.90 प्रतिशत

Question Number : 53 Question Id : 54592740857 Question Type : MCQ Option Shuffling : Yes  
Correct Marks : 1 Wrong Marks : 0.25

Three friends A, B and C start to run around a circular stadium. They complete a revolution in 24, 32 and 40 seconds respectively. After how many minutes will they meet at the starting point?

Options :

1. \* 480
2. ✓ 8
3. \* 60
4. \* 180

Question Number : 53 Question Id : 54592740857 Question Type : MCQ Option Shuffling : Yes  
Correct Marks : 1 Wrong Marks : 0.25

तीन मित्र A, B और C एक वृत्ताकार स्टेडियम के चारों ओर दौड़ना शुरू करते हैं। वे क्रमशः 24, 32 और 40 सेकंड में एक चक्र पूरा करते हैं। शुरुआती बिंदु पर वे कितने मिनट के बाद मिलेंगे?

Options :

1. \* 480
2. ✓ 8

3. ✖ 60

4. ✖ 180

Question Number : 54 Question Id : 54592740858 Question Type : MCQ Option Shuffling : Yes

Correct Marks : 1 Wrong Marks : 0.25

Two trains 90 m and 85 m long are running in same direction with speeds of 56 km/h and 42 km/h respectively. In what time will the first train cross the second train?

Options :

1. ✖ 42 second

2. ✔ 45 second

3. ✖ 56 second

4. ✖ 67 second

Question Number : 54 Question Id : 54592740858 Question Type : MCQ Option Shuffling : Yes

Correct Marks : 1 Wrong Marks : 0.25

दो रेलगाड़ियां 90 m और 85 m लंबी क्रमशः 56 km/h और 42 km/h की गति के साथ चल रही हैं। कितने समय में पहली रेलगाड़ी दूसरी रेलगाड़ी को पार करेगी?

Options :

1. ✖ 42 सेकंड

2. ✔ 45 सेकंड

3. ✖ 56 सेकंड

4. ✖ 67 सेकंड

Question Number : 55 Question Id : 54592740859 Question Type : MCQ Option Shuffling : Yes

Correct Marks : 1 Wrong Marks : 0.25

Arjun can do a piece of work in 28 days. Aman can do it in 36 days. In how many days will both do it together?

Options :

1. ✔ 15 (3/4) days

2. ✖ 12 (4/3) days

3. ✖ 13 (9/2) days

4. ✖ 16 (1/2) days

Question Number : 55 Question Id : 54592740859 Question Type : MCQ Option Shuffling : Yes

Correct Marks : 1 Wrong Marks : 0.25

अर्जुन 28 दिनों में एक काम कर सकता है। अमन 36 दिन में कर सकता है। दोनों एक साथ कितने दिनों में करेंगे?

Options :

1. ✔ 15 (3/4) दिन

2. ✖ 12 (4/3) दिन

3. ✖ 13 (9/2) दिन

4. ✖ 16 (1/2) दिन

Question Number : 56 Question Id : 54592740860 Question Type : MCQ Option Shuffling : Yes

Correct Marks : 1 Wrong Marks : 0.25

A sphere of radius 12 cm is melted and then a solid cylinder of base radius 4 cm is made from it. The height of solid cylinder, thus formed is how much?

Options :

1. ✖ 96 cm

2. ✖ 128 cm

3. ✔ 144 cm

4. ✖ 169 cm

Question Number : 56 Question Id : 54592740860 Question Type : MCQ Option Shuffling : Yes

Correct Marks : 1 Wrong Marks : 0.25

12 cm त्रिज्या के एक गोले को पिघलाया जाता है और इससे 4 cm आधार त्रिज्या का एक ठोस सिलेंडर बनाया जाता है। इस ठोस सिलेंडर की ऊँचाई कितनी है?

Options :

1. ✖ 96 cm
2. ✖ 128 cm
3. ✔ 144 cm
4. ✖ 169 cm

Question Number : 57 Question Id : 54592740861 Question Type : MCQ Option Shuffling : Yes  
Correct Marks : 1 Wrong Marks : 0.25

The circumference of the front wheel of a cart is 28 ft long and that of the rear wheel is 42 ft long. What is the distance travelled by the cart, when the front wheel has done eight more revolutions than the rear wheel?

Options :

1. ✔ 672 ft
2. ✖ 437 ft
3. ✖ 527 ft
4. ✖ 877 ft

Question Number : 57 Question Id : 54592740861 Question Type : MCQ Option Shuffling : Yes  
Correct Marks : 1 Wrong Marks : 0.25

एक गाड़ी के अगले पहिए की परिधि 28 फीट लंबी है और पीछे वाले पहिए की लंबाई 42 फीट है। गाड़ी द्वारा तय की गई दूरी क्या है, जब सामने के पहिए ने पीछे के पहिए की तुलना में आठ चक्र अधिक लगाए हैं?

Options :

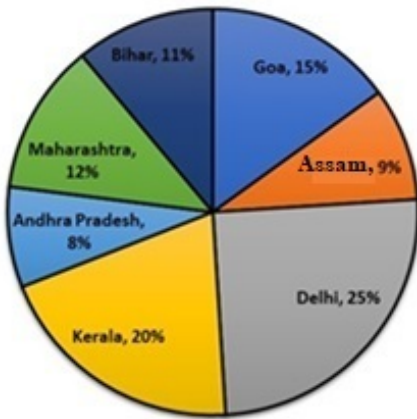
1. ✔ 672 फीट
2. ✖ 437 फीट
3. ✖ 527 फीट
4. ✖ 877 फीट



Question Number : 58 Question Id : 54592740862 Question Type : MCQ Option Shuffling : Yes  
Correct Marks : 1 Wrong Marks : 0.25

The following pie chart shows the breakup of road accidents in 7 states for a given year. Out of these 7 states which state recorded the most number of road accidents?

Breakup of the number of road accidents reported in 7 states



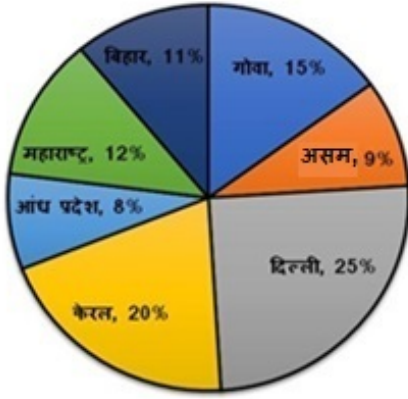
Options :

1. ✓ Delhi
2. ✗ Kerala
3. ✗ Bihar
4. ✗ Goa

Question Number : 58 Question Id : 54592740862 Question Type : MCQ Option Shuffling : Yes  
Correct Marks : 1 Wrong Marks : 0.25

निम्नलिखित पाई चार्ट 7 राज्यों में एक वर्ष में सड़क दुर्घटनाओं के ब्रेकअप को दर्शाता है। इन 7 राज्यों में से किस राज्य में सड़क दुर्घटनाओं की संख्या सबसे अधिक है?

7 राज्यों में सड़क दुर्घटनाओं की संख्या का ब्रेकअप



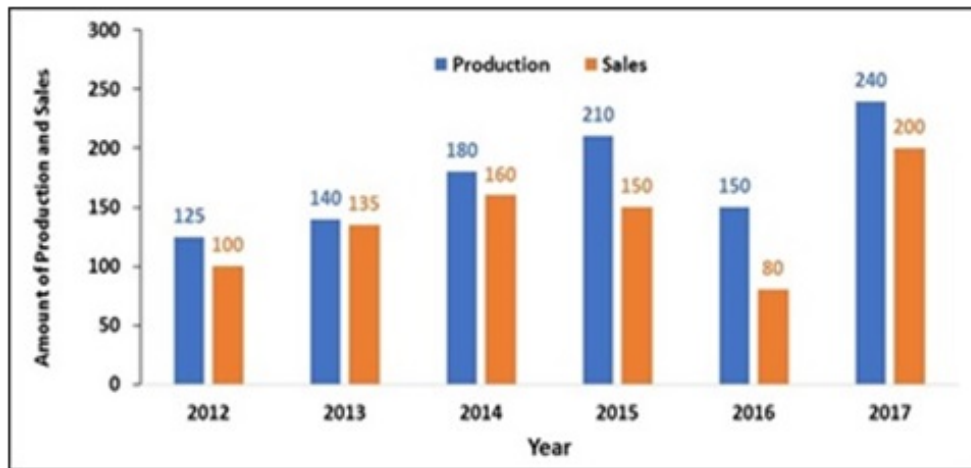
Options :

1. ✓ दिल्ली
2. ✗ केरल
3. ✗ बिहार
4. ✗ गोवा

Question Number : 59 Question Id : 54592740863 Question Type : MCQ Option Shuffling : Yes

Correct Marks : 1 Wrong Marks : 0.25

The following bar graph shows the amount of production and sales (in tons of kilograms) over the given 6 years in a particular state. Find the ratio of total production to total sales for all given years.

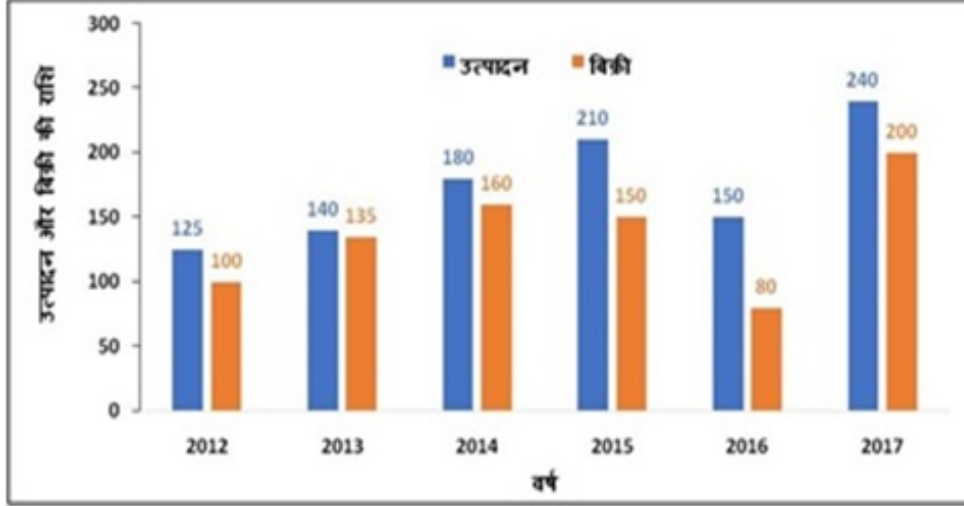


Options :

1. ✓ 19 : 15
2. ✗ 209 : 170
3. ✗ 17 : 15
4. ✗ 207 : 166

Question Number : 59 Question Id : 54592740863 Question Type : MCQ Option Shuffling : Yes  
Correct Marks : 1 Wrong Marks : 0.25

निम्नलिखित बार ग्राफ किसी विशेष राज्य में दिए गए 6 वर्षों में उत्पादन और बिक्री की मात्रा (किलोग्राम में टन) को दर्शाता है। दिए गए वर्षों के लिए कुल बिक्री के कुल उत्पादन का अनुपात ज्ञात करें।

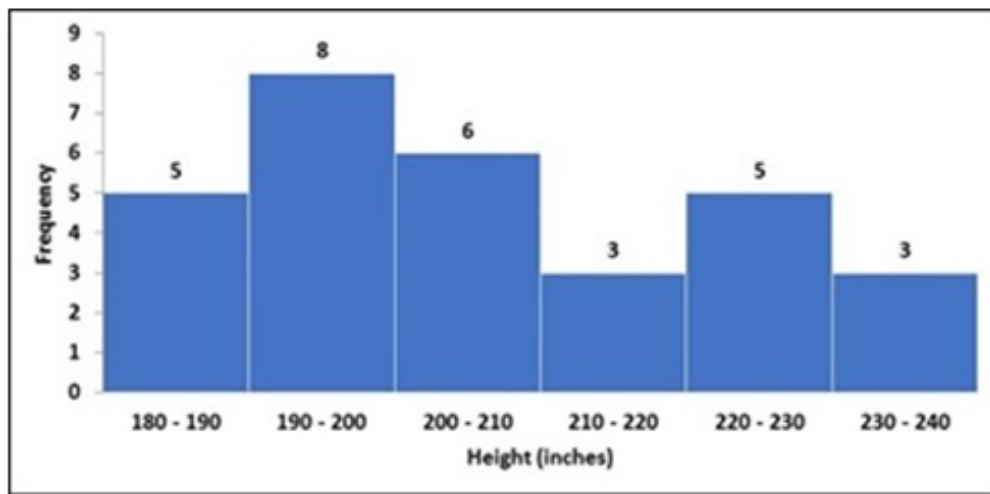


Options :

1. ✓ 19 : 15
2. ✗ 209 : 170
3. ✗ 17 : 15
4. ✗ 207 : 166

Question Number : 60 Question Id : 54592740864 Question Type : MCQ Option Shuffling : Yes  
Correct Marks : 1 Wrong Marks : 0.25

The histogram shows the heights of 30 giraffe in a zoo, grouped into 10-inch groups. How many giraffes were greater than or equal to 200 inches tall?



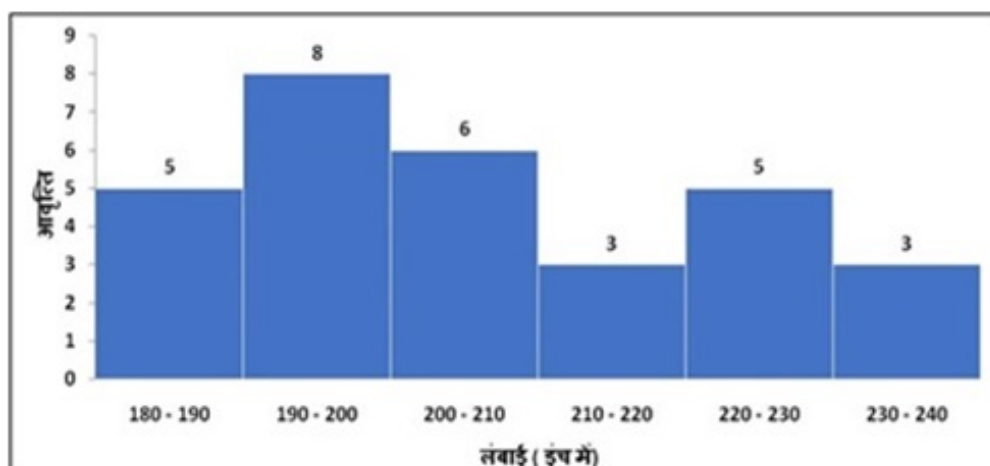
Options :

1. ✓ 17
2. ✗ 18
3. ✗ 19
4. ✗ 20

Question Number : 60 Question Id : 54592740864 Question Type : MCQ Option Shuffling : Yes

Correct Marks : 1 Wrong Marks : 0.25

आयतचित्र एक चिड़ियाघर में 30 जिराफ की ऊंचाइयों को दर्शाता है, इन्हें 10 इंच के समूहों में बांटा गया है। कितने जिराफ़ 200 इंच से अधिक या उसके बराबर लंबे थे?



Options :

1. ✓ 17

2. ✗ 18

3. ✗ 19

4. ✗ 20

## General English

Group Number :	4
Group Id :	5459272024
Group Maximum Duration :	0
Group Minimum Duration :	0
Show Attended Group? :	No
Edit Attended Group? :	No
Break time:	0
Group Marks:	20
Is this Group for Examiner? :	No
Revisit allowed for group Instructions? :	Yes
Maximum Instruction Time:	0
Minimum Instruction Time:	0

## General English

Section Id :	5459272024
Section Number :	1
Section type :	Online
Mandatory or Optional:	Mandatory
Number of Questions:	16
Number of Questions to be attempted:	16
Section Marks:	20

Sub-Section Number:	1
Sub-Section Id:	5459272428
Question Shuffling Allowed :	Yes

Question Number : 61 Question Id : 54592740865 Question Type : MCQ Option Shuffling : Yes  
Correct Marks : 1 Wrong Marks : 0.25

The sentence below has been divided into three parts. Select the part of the sentence that has an error. If the sentence has no error, select the option 'No Error'.

(A) They decorated / (B) the house from / (C) balloons and ribbons../ (D) No error

Options :

1. ✖ A

2. ✔ B

3. ✖ C

4. ✖ D

Question Number : 61 Question Id : 54592740865 Question Type : MCQ Option Shuffling : Yes

Correct Marks : 1 Wrong Marks : 0.25

The sentence below has been divided into three parts. Select the part of the sentence that has an error. If the sentence has no error, select the option 'No Error'.

(A) They decorated / (B) the house from / (C) balloons and ribbons../ (D) No error

Options :

1. ✖ A

2. ✔ B

3. ✖ C

4. ✖ D

Question Number : 62 Question Id : 54592740866 Question Type : MCQ Option Shuffling : Yes

Correct Marks : 1 Wrong Marks : 0.25

The sentence below has been divided into three parts. Select the part of the sentence that has an error. If the sentence has no error, select the option 'No Error'.

(A) Barkha has / (B) been learning Spanish / (C) since 2015. /  
(D) No error

Options :

1. ✖ A

2. ✖ B

3. ✖ C

4. ✔ D

Question Number : 62 Question Id : 54592740866 Question Type : MCQ Option Shuffling : Yes

Correct Marks : 1 Wrong Marks : 0.25

The sentence below has been divided into three parts. Select the part of the sentence that has an error. If the sentence has no error, select the option 'No Error'.

(A) Barkha has / (B) been learning Spanish / (C) since 2015. / (D) No error

Options :

1. ✖ A

2. ✖ B

3. ✖ C

4. ✔ D

Question Number : 63 Question Id : 54592740867 Question Type : MCQ Option Shuffling : Yes

Correct Marks : 1 Wrong Marks : 0.25



Select the word segment that substitutes (replaces) the bracketed word segment correctly and completes the sentence meaningfully. Select the option 'no correction required' if the sentence is correct as given.

I (will be meeting) Fatima tomorrow.

Options :

1. ✖ will met
2. ✖ have been meeting
3. ✖ has been meeting
4. ✔ No improvement

Question Number : 63 Question Id : 54592740867 Question Type : MCQ Option Shuffling : Yes  
Correct Marks : 1 Wrong Marks : 0.25

Select the word segment that substitutes (replaces) the bracketed word segment correctly and completes the sentence meaningfully. Select the option 'no correction required' if the sentence is correct as given.

I (will be meeting) Fatima tomorrow.

Options :

1. ✖ will met
2. ✖ have been meeting
3. ✖ has been meeting
4. ✔ No improvement

Question Number : 64 Question Id : 54592740868 Question Type : MCQ Option Shuffling : Yes  
Correct Marks : 1 Wrong Marks : 0.25

Select the word segment that substitutes (replaces) the bracketed word segment correctly and completes the sentence meaningfully. Select the option 'no correction required' if the sentence is correct as given.

The child was staring out through the open window with (daze) eyes.

Options :

1. ✓ **dazzled**
2. ✗ **dazzles**
3. ✗ **dazzlingly**
4. ✗ **No improvement**

Question Number : 64 Question Id : 54592740868 Question Type : MCQ Option Shuffling : Yes  
Correct Marks : 1 Wrong Marks : 0.25

Select the word segment that substitutes (replaces) the bracketed word segment correctly and completes the sentence meaningfully. Select the option 'no correction required' if the sentence is correct as given.

The child was staring out through the open window with (daze) eyes.

Options :

1. ✓ **dazzled**
2. ✗ **dazzles**
3. ✗ **dazzlingly**
4. ✗ **No improvement**

Question Number : 65 Question Id : 54592740869 Question Type : MCQ Option Shuffling : Yes  
Correct Marks : 1 Wrong Marks : 0.25

Select the most appropriate word that fills in the blank correctly and completes the sentence meaningfully.

He was starting \_\_\_\_\_ space.

Options :

1. ✖ at
2. ✔ into
3. ✖ in
4. ✖ upon

Question Number : 65 Question Id : 54592740869 Question Type : MCQ Option Shuffling : Yes  
Correct Marks : 1 Wrong Marks : 0.25

Select the most appropriate word that fills in the blank correctly and completes the sentence meaningfully.

He was starting \_\_\_\_\_ space.

Options :

1. ✖ at
2. ✔ into
3. ✖ in
4. ✖ upon

Question Number : 66 Question Id : 54592740870 Question Type : MCQ Option Shuffling : Yes  
Correct Marks : 1 Wrong Marks : 0.25

Select the most appropriate word that fills in the blank correctly and completes the sentence meaningfully.

Once upon a time there \_\_\_\_\_ a man called Danish.

Options :

1. ✖ live
2. ✖ lives
3. ✔ lived
4. ✖ is living

Question Number : 66 Question Id : 54592740870 Question Type : MCQ Option Shuffling : Yes  
Correct Marks : 1 Wrong Marks : 0.25

Select the most appropriate word that fills in the blank correctly and completes the sentence meaningfully.

Once upon a time there \_\_\_\_\_ a man called Danish.

Options :

1. ✖ live
2. ✖ lives
3. ✔ lived
4. ✖ is living

Question Number : 67 Question Id : 54592740871 Question Type : MCQ Option Shuffling : Yes  
Correct Marks : 1 Wrong Marks : 0.25

Some parts of a sentence have been jumbled up, and labelled P, Q, R and S. Select the option that gives the correct sequence in which these parts can be rearranged to form a meaningful and grammatically correct sentence.

Child labour was the

P: because children could be

Q: as efficiently as adults on machines

R: hallmark of the Industrial Revolution

S: paid less and they could work

Options :

1. ✖ QSPR
2. ✖ PSQR
3. ✔ RPSQ
4. ✖ SQRP

Question Number : 67 Question Id : 54592740871 Question Type : MCQ Option Shuffling : Yes

Correct Marks : 1 Wrong Marks : 0.25

Some parts of a sentence have been jumbled up, and labelled P, Q, R and S. Select the option that gives the correct sequence in which these parts can be rearranged to form a meaningful and grammatically correct sentence.

Child labour was the

P: because children could be

Q: as efficiently as adults on machines

R: hallmark of the Industrial Revolution

S: paid less and they could work

Options :

1. ✖ QSPR
2. ✖ PSQR
3. ✔ RPSQ
4. ✖ SQRP

Question Number : 68 Question Id : 54592740872 Question Type : MCQ Option Shuffling : Yes

Correct Marks : 1 Wrong Marks : 0.25

Some parts of a sentence have been jumbled up, and labelled P, Q, R and S. Select the option that gives the correct sequence in which these parts can be rearranged to form a meaningful and grammatically correct sentence.

The Rowlatt Act

P: which authorised the British Government

Q: without any trial

R: to imprison any person in the Raj

S: was passed in March 1919

Options :

1. ✖ QSPR

2. ✖ RQSP

3. ✖ RSPQ

4. ✔ PRQS

Question Number : 68 Question Id : 54592740872 Question Type : MCQ Option Shuffling : Yes

Correct Marks : 1 Wrong Marks : 0.25

Some parts of a sentence have been jumbled up, and labelled P, Q, R and S. Select the option that gives the correct sequence in which these parts can be rearranged to form a meaningful and grammatically correct sentence.

The Rowlatt Act

P: which authorised the British Government

Q: without any trial

R: to imprison any person in the Raj

S: was passed in March 1919

Options :

1. ✘ QSPR
2. ✘ RQSP
3. ✘ RSPQ
4. ✔ PRQS

Question Number : 69 Question Id : 54592740873 Question Type : MCQ Option Shuffling : Yes  
Correct Marks : 1 Wrong Marks : 0.25

Select the word that is opposite in meaning (ANTONYM) to the word given below.

Vouch

Options :

1. ✘ Dull
2. ✘ Consent
3. ✘ Morality
4. ✔ Abjure

Question Number : 69 Question Id : 54592740873 Question Type : MCQ Option Shuffling : Yes  
Correct Marks : 1 Wrong Marks : 0.25

Select the word that is opposite in meaning (ANTONYM) to the word given below.

Vouch

Options :

1. ✘ Dull
2. ✘ Consent
3. ✘ Morality

## 4. ✓ Abjure

Question Number : 70 Question Id : 54592740874 Question Type : MCQ Option Shuffling : Yes  
Correct Marks : 1 Wrong Marks : 0.25

Select the word that is opposite in meaning (ANTONYM) to the word given below.

Terse

Options :

1. ✓ Gentle
2. ✗ Wild
3. ✗ Compact
4. ✗ Calm

Question Number : 70 Question Id : 54592740874 Question Type : MCQ Option Shuffling : Yes  
Correct Marks : 1 Wrong Marks : 0.25

Select the word that is opposite in meaning (ANTONYM) to the word given below.

Terse

Options :

1. ✓ Gentle
2. ✗ Wild
3. ✗ Compact
4. ✗ Calm

Question Number : 71 Question Id : 54592740875 Question Type : MCQ Option Shuffling : Yes  
Correct Marks : 1 Wrong Marks : 0.25

Select the word that is spelled correctly.

Options :

1. ✓ Exultation



2. ✖ Excultation

3. ✖ Excultration

4. ✖ Exultition

Question Number : 71 Question Id : 54592740875 Question Type : MCQ Option Shuffling : Yes  
Correct Marks : 1 Wrong Marks : 0.25

Select the word that is spelled correctly.

Options :

1. ✔ Exultation

2. ✖ Excultation

3. ✖ Excultration

4. ✖ Exultition

Question Number : 72 Question Id : 54592740876 Question Type : MCQ Option Shuffling : Yes  
Correct Marks : 1 Wrong Marks : 0.25

Select the word that is spelled correctly.

Options :

1. ✖ Vaccilate

2. ✖ Vacilate

3. ✖ Vaccillate

4. ✔ Vacillate

Question Number : 72 Question Id : 54592740876 Question Type : MCQ Option Shuffling : Yes  
Correct Marks : 1 Wrong Marks : 0.25

Select the word that is spelled correctly.

Options :

1. ✖ Vaccilate

2. ✖ Vacilate

3. ✖ Vaccillate

4. ✔ Vacillate

Question Number : 73 Question Id : 54592740877 Question Type : MCQ Option Shuffling : Yes

Correct Marks : 1 Wrong Marks : 0.25

Select the option that best expresses the meaning of the idiom or phrase given below.

Thumb one's nose

Options :

1. ✖ Pretend to be happy
2. ✖ To reveal someone's secret
3. ✔ To express scorn or to disregard
4. ✖ To have fun with friends

Question Number : 73 Question Id : 54592740877 Question Type : MCQ Option Shuffling : Yes

Correct Marks : 1 Wrong Marks : 0.25

Select the option that best expresses the meaning of the idiom or phrase given below.

Thumb one's nose

Options :

1. ✖ Pretend to be happy
2. ✖ To reveal someone's secret
3. ✔ To express scorn or to disregard
4. ✖ To have fun with friends

Question Number : 74 Question Id : 54592740878 Question Type : MCQ Option Shuffling : Yes

Correct Marks : 1 Wrong Marks : 0.25

Select the option that best expresses the meaning of the idiom or phrase given below.

He's a chip off the old block

Options :

1. ✖ Ignore someone
2. ✔ The son is like the father
3. ✖ To do something pointless
4. ✖ Get something exactly right

Question Number : 74 Question Id : 54592740878 Question Type : MCQ Option Shuffling : Yes

Correct Marks : 1 Wrong Marks : 0.25

Select the option that best expresses the meaning of the idiom or phrase given below.

He's a chip off the old block

Options :

1. ✖ Ignore someone
2. ✔ The son is like the father
3. ✖ To do something pointless
4. ✖ Get something exactly right

Question Number : 75 Question Id : 54592740879 Question Type : MCQ Option Shuffling : Yes

Correct Marks : 1 Wrong Marks : 0.25

Select the most appropriate 'one word ' for the expressions given below.

A state, society, or group governed by old people

Options :

1. ✖ Aristocracy
2. ✖ Bureaucracy
3. ✔ Gerontocracy
4. ✖ Kakistocracy

Question Number : 75 Question Id : 54592740879 Question Type : MCQ Option Shuffling : Yes  
Correct Marks : 1 Wrong Marks : 0.25

Select the most appropriate 'one word ' for the expressions given below.

A state, society, or group governed by old people

Options :

1. ✘ Aristocracy
2. ✘ Bureaucracy
3. ✔ Gerontocracy
4. ✘ Kakistocracy

Sub-Section Number:	2
Sub-Section Id:	5459272429
Question Shuffling Allowed :	Yes

Question Id : 54592740880 Question Type : COMPREHENSION Sub Question Shuffling Allowed : Yes Group Comprehension Questions : No  
Question Numbers : (76 to 80)

Question Label : Comprehension

Read the passage carefully and answer the following questions based on this passage.

'About Time' is a 2013 British romantic comedy-drama film about a young man with the ability to time travel who tries to change his past in hopes of improving his future. The film was written and directed by Richard Curtis, and stars Domhnall Gleeson, Rachel McAdams and Bill Nighy. It was released in the United Kingdom on 4 September 2013. The film received mixed reviews from critics.

The review aggregation website Rotten Tomatoes gives the film a rating of 70%, based on 154 reviews, with an average rating of 6.36/10. At the box office it grossed \$87.1 million against a \$12 million budget. In the movie, Tim Lake (Domhnall Gleeson) grows up in Cornwall in a house by the sea with his father James (Bill Nighy), mother Mary (Lindsay Duncan), absent-minded uncle Desmond (Richard Cordery), and free-spirited sister Katherine or "Kit Kat" (Lydia Wilson). At the age of 21, Tim learns from his father that the men of his family have the secret ability to travel back in time, to moments they have lived before. In order to time travel they must be in a dark space, clench their fists and visualize the memory they wish to travel back to. James discourages his son from using his gift to acquire money or fame, and Tim decides he will use it to improve his love life. The following summer, Kit Kat's friend Charlotte (Margot Robbie) visits. Tim is instantly smitten, but waits until the end of her stay to tell her how he feels; she tells him that he should have told her earlier. Tim travels back in time to tell Charlotte in the middle of the holiday, but she says it would be better to wait until her last day. Heartbroken, Tim realizes she is uninterested in him, and that time travel cannot change anyone's mind.

Sub questions

Question Number : 76 Question Id : 54592740881 Question Type : MCQ Option Shuffling : Yes

Correct Marks : 1 Wrong Marks : 0.25

In which year was the film 'About Time' released?

Options :

1. ✖ 2010

2. ✖ 2012

3. ✖ 2011

4. ✔ 2013

Question Number : 77 Question Id : 54592740882 Question Type : MCQ Option Shuffling : Yes

Correct Marks : 1 Wrong Marks : 0.25

Which of the following was not a genre of 'About Time'?

Options :

1. ✖ Romance

2. ✖ Comedy

3. ✔ Sci-fi

4. ✖ Drama

Question Number : 78 Question Id : 54592740883 Question Type : MCQ Option Shuffling : Yes

Correct Marks : 1 Wrong Marks : 0.25

In the movie, where does Tim Lake grows up?

Options :

1. ✔ Cornwall

2. ✖ India

3. ✖ Uganda

4. ✖ Australia

Question Number : 79 Question Id : 54592740884 Question Type : MCQ Option Shuffling : Yes

Correct Marks : 1 Wrong Marks : 0.25

What did Tim learn from his father at the age of 21?

Options :

1. ✖ That men of his family are intelligent `

2. ✓ That men of his family have the secret ability to travel back in time

3. ✖ To drive

4. ✖ To fly

Question Number : 80 Question Id : 54592740885 Question Type : MCQ Option Shuffling : Yes  
Correct Marks : 1 Wrong Marks : 0.25

Which of the following is an antonym for the word 'smitten'?

Options :

1. ✖ affected

2. ✖ taken

3. ✖ stricken

4. ✓ unaffected

Question Id : 54592740880 Question Type : COMPREHENSION Sub Question Shuffling Allowed : Yes Group Comprehension Questions : No  
Question Numbers : (76 to 80)

Question Label : Comprehension

Read the passage carefully and answer the following questions based on this passage.

'About Time' is a 2013 British romantic comedy-drama film about a young man with the ability to time travel who tries to change his past in hopes of improving his future. The film was written and directed by Richard Curtis, and stars Domhnall Gleeson, Rachel McAdams and Bill Nighy. It was released in the United Kingdom on 4 September 2013. The film received mixed reviews from critics.

The review aggregation website Rotten Tomatoes gives the film a rating of 70%, based on 154 reviews, with an average rating of 6.36/10. At the box office it grossed \$87.1 million against a \$12 million budget. In the movie, Tim Lake (Domhnall Gleeson) grows up in Cornwall in a house by the sea with his father James (Bill Nighy), mother Mary (Lindsay Duncan), absent-minded uncle Desmond (Richard Cordery), and free-spirited sister Katherine or "Kit Kat" (Lydia Wilson). At the age of 21, Tim learns from his father that the men of his family have the secret ability to travel back in time, to moments they have lived before. In order to time travel they must be in a dark space, clench their fists and visualize the memory they wish to travel back to. James discourages his son from using his gift to acquire money or fame, and Tim decides he will use it to improve his love life. The following summer, Kit Kat's friend Charlotte (Margot Robbie) visits. Tim is instantly smitten, but waits until the end of her stay to tell her how he feels; she tells him that he should have told her earlier. Tim travels back in time to tell Charlotte in the middle of the holiday, but she says it would be better to wait until her last day. Heartbroken, Tim realizes she is uninterested in him, and that time travel cannot change anyone's mind.



Sub questions

Question Number : 76 Question Id : 54592740881 Question Type : MCQ Option Shuffling : Yes  
Correct Marks : 1 Wrong Marks : 0.25

In which year was the film 'About Time' released?

Options :

1. ✘ 2010
2. ✘ 2012
3. ✘ 2011
4. ✔ 2013

Question Number : 77 Question Id : 54592740882 Question Type : MCQ Option Shuffling : Yes  
Correct Marks : 1 Wrong Marks : 0.25

Which of the following was not a genre of 'About Time'?

Options :

1. ✘ Romance
2. ✘ Comedy
3. ✔ Sci-fi
4. ✘ Drama

Question Number : 78 Question Id : 54592740883 Question Type : MCQ Option Shuffling : Yes  
Correct Marks : 1 Wrong Marks : 0.25

In the movie, where does Tim Lake grows up?

Options :

1. ✔ Cornwall
2. ✘ India
3. ✘ Uganda
4. ✘ Australia

Question Number : 79 Question Id : 54592740884 Question Type : MCQ Option Shuffling : Yes  
Correct Marks : 1 Wrong Marks : 0.25

What did Tim learn from his father at the age of 21?

Options :

1. ✘ That men of his family are intelligent `
2. ✔ That men of his family have the secret ability to travel back in time
3. ✘ To drive
4. ✘ To fly

Question Number : 80 Question Id : 54592740885 Question Type : MCQ Option Shuffling : Yes  
Correct Marks : 1 Wrong Marks : 0.25

Which of the following is an antonym for the word 'smitten'?

Options :

1. ✘ affected
2. ✘ taken
3. ✘ stricken
4. ✔ unaffected

## General Hindi

Group Number :	5
Group Id :	5459272025
Group Maximum Duration :	0
Group Minimum Duration :	0
Show Attended Group? :	No
Edit Attended Group? :	No
Break time:	0
Group Marks:	20
Is this Group for Examiner?:	No
Revisit allowed for group Instructions? :	Yes
Maximum Instruction Time:	0
Minimum Instruction Time:	0

## General Hindi

Section Id :	5459272025
Section Number :	1
Section type :	Online
Mandatory or Optional:	Mandatory
Number of Questions:	16
Number of Questions to be attempted:	16
Section Marks:	20

Sub-Section Number:	1
Sub-Section Id:	5459272430
Question Shuffling Allowed :	Yes

Question Number : 81 Question Id : 54592740886 Question Type : MCQ Option Shuffling : Yes

Correct Marks : 1 Wrong Marks : 0.25

निम्नलिखित प्रश्न में, चार विकल्पों में से, उस विकल्प का चयन करें जो दिए गए सही संधि विच्छेद की संधि का सही विकल्प हो।

अन + अंग

Options :

1. \* अंग
2. ✓ अनंग
3. \* अनांग
4. \* अनअंग

Question Number : 81 Question Id : 54592740886 Question Type : MCQ Option Shuffling : Yes

Correct Marks : 1 Wrong Marks : 0.25

निम्नलिखित प्रश्न में, चार विकल्पों में से, उस विकल्प का चयन करें जो दिए गए सही संधि विच्छेद की संधि का सही विकल्प हो।

अन + अंग

Options :

1. \* अंग
2. ✓ अनंग
3. \* अनांग

## 4. \* अनअंग

Question Number : 82 Question Id : 54592740887 Question Type : MCQ Option Shuffling : Yes

Correct Marks : 1 Wrong Marks : 0.25

निम्नलिखित प्रश्न में, चार विकल्पों में से, उस विकल्प का चयन करें जो दिए गए शब्द के सही संधि विच्छेद का विकल्प हो।

अत्युत्तम

Options :

1. \* अतियु + ततं
2. \* अत + युत्तम
3. \* अत्यु + त्तम
4. ✓ अति + उत्तम

Question Number : 82 Question Id : 54592740887 Question Type : MCQ Option Shuffling : Yes

Correct Marks : 1 Wrong Marks : 0.25

निम्नलिखित प्रश्न में, चार विकल्पों में से, उस विकल्प का चयन करें जो दिए गए शब्द के सही संधि विच्छेद का विकल्प हो।

अत्युत्तम

Options :

1. \* अतियु + ततं
2. \* अत + युत्तम
3. \* अत्यु + त्तम
4. ✓ अति + उत्तम

Question Number : 83 Question Id : 54592740888 Question Type : MCQ Option Shuffling : Yes

Correct Marks : 1 Wrong Marks : 0.25

निम्नलिखित प्रश्न में, चार विकल्पों में से, उस विकल्प का चयन करें जो क्रिया के भेद वाला सही विकल्प हो।

मैं खाकर सो गया।

Options :

1. ✓ पूर्वकालिक क्रिया
2. \* प्रेरणार्थक क्रिया
3. \* नामधातु क्रिया
4. \* तात्कालिक क्रिया

Question Number : 83 Question Id : 54592740888 Question Type : MCQ Option Shuffling : Yes

Correct Marks : 1 Wrong Marks : 0.25

निम्नलिखित प्रश्न में, चार विकल्पों में से, उस विकल्प का चयन करें जो क्रिया के भेद वाला सही विकल्प हो।

मैं खाकर सो गया।

Options :

1. ✓ पूर्वकालिक क्रिया
2. \* प्रेरणार्थक क्रिया
3. \* नामधातु क्रिया
4. \* तात्कालिक क्रिया

Question Number : 84 Question Id : 54592740889 Question Type : MCQ Option Shuffling : Yes

Correct Marks : 1 Wrong Marks : 0.25

निम्नलिखित प्रश्न में, चार विकल्पों में से, उस विकल्प का चयन करें जो विशेषण के भेद वाला विकल्प हो।

जापान में स्वस्थ लोग रहते हैं।

Options :

1. \* सार्वनामिक

2. \* निश्चित परिमाण वाचक

3. \* निश्चित संख्यावाचक

4. ✓ गुणवाचक

Question Number : 84 Question Id : 54592740889 Question Type : MCQ Option Shuffling : Yes  
Correct Marks : 1 Wrong Marks : 0.25

निम्नलिखित प्रश्न में, चार विकल्पों में से, उस विकल्प का चयन करें जो विशेषण के भेद वाला विकल्प हो।

जापान में स्वस्थ लोग रहते हैं।

Options :

1. \* सार्वनामिक

2. \* निश्चित परिमाण वाचक

3. \* निश्चित संख्यावाचक

4. ✓ गुणवाचक

Question Number : 85 Question Id : 54592740890 Question Type : MCQ Option Shuffling : Yes  
Correct Marks : 1 Wrong Marks : 0.25

निम्नलिखित प्रश्न में, चार विकल्पों में से, उस विकल्प का चयन करें जो दिए गए शब्द के पर्यायवाची शब्द का सही विकल्प नहीं है।

रजनी

Options :

1. ✓ सौदामिनी

2. \* विभावरी

3. \* यामिनी

4. \* निशा

Question Number : 85 Question Id : 54592740890 Question Type : MCQ Option Shuffling : Yes  
Correct Marks : 1 Wrong Marks : 0.25

निम्नलिखित प्रश्न में, चार विकल्पों में से, उस विकल्प का चयन करें जो दिए गए शब्द के पर्यायवाची शब्द का सही विकल्प नहीं है।

रजनी

Options :

1. ✓ सौदामिनी
2. \* विभावरी
3. \* यामिनी
4. \* निशा

Question Number : 86 Question Id : 54592740891 Question Type : MCQ Option Shuffling : Yes

Correct Marks : 1 Wrong Marks : 0.25

निम्नलिखित प्रश्न में, चार विकल्पों में से, उस विकल्प का चयन करें जो दिए गए शब्द का सही श्रुतिसमभिन्नार्थक शब्द का विकल्प है।

द्वीप

Options :

1. \* दीपक
2. ✓ टापू
3. \* दीया
4. \* पदार्थ

Question Number : 86 Question Id : 54592740891 Question Type : MCQ Option Shuffling : Yes

Correct Marks : 1 Wrong Marks : 0.25

निम्नलिखित प्रश्न में, चार विकल्पों में से, उस विकल्प का चयन करें जो दिए गए शब्द का सही श्रुतिसमभिन्नार्थक शब्द का विकल्प है।

द्वीप

Options :

1. \* दीपक

2. ✓ टापू

3. \* दीया

4. \* पदार्थ

Question Number : 87 Question Id : 54592740892 Question Type : MCQ Option Shuffling : Yes

Correct Marks : 1 Wrong Marks : 0.25

निम्नलिखित प्रश्न में, चार विकल्पों में से, उस सही विकल्प का चयन करें जो कोष्ठक में दिए गए शब्द का सही विकल्प हो।

नवीन ने भागकर बस (ली)।

Options :

1. \* खड़ी

2. \* उठाई

3. ✓ पकड़ी

4. \* बताई

Question Number : 87 Question Id : 54592740892 Question Type : MCQ Option Shuffling : Yes

Correct Marks : 1 Wrong Marks : 0.25

निम्नलिखित प्रश्न में, चार विकल्पों में से, उस सही विकल्प का चयन करें जो कोष्ठक में दिए गए शब्द का सही विकल्प हो।

नवीन ने भागकर बस (ली)।

Options :

1. \* खड़ी

2. \* उठाई

3. ✓ पकड़ी

4. \* बताई



Question Number : 88 Question Id : 54592740893 Question Type : MCQ Option Shuffling : Yes  
Correct Marks : 1 Wrong Marks : 0.25

निम्नलिखित प्रश्न में, चार विकल्पों में से, उस विकल्प का चयन करें जो शुद्ध शब्द का सही विकल्प है।

Options :

1. ✓ आवंटन
2. ✗ आबंटन
3. ✗ अबंत्न
4. ✗ अबंटन

Question Number : 88 Question Id : 54592740893 Question Type : MCQ Option Shuffling : Yes  
Correct Marks : 1 Wrong Marks : 0.25

निम्नलिखित प्रश्न में, चार विकल्पों में से, उस विकल्प का चयन करें जो शुद्ध शब्द का सही विकल्प है।

Options :

1. ✓ आवंटन
2. ✗ आबंटन
3. ✗ अबंत्न
4. ✗ अबंटन

Question Number : 89 Question Id : 54592740894 Question Type : MCQ Option Shuffling : Yes  
Correct Marks : 1 Wrong Marks : 0.25

निम्नलिखित प्रश्न में, चार विकल्पों में से, उस विकल्प का चयन करें जो दिए गए शब्द के लिए बहुवचन शब्द का सबसे अच्छा विकल्प है।

माता

Options :

1. ✗ मातार्ये
2. ✗ माते
3. ✗ माताओ
4. ✓ माताएँ

Question Number : 89 Question Id : 54592740894 Question Type : MCQ Option Shuffling : Yes  
Correct Marks : 1 Wrong Marks : 0.25

निम्नलिखित प्रश्न में, चार विकल्पों में से, उस विकल्प का चयन करें जो दिए गए शब्द के लिए बहुवचन शब्द का सबसे अच्छा विकल्प है।

माता

Options :

1. \* मातार्ये
2. \* माते
3. \* माताओ
4. ✓ माताएँ

Question Number : 90 Question Id : 54592740895 Question Type : MCQ Option Shuffling : Yes  
Correct Marks : 1 Wrong Marks : 0.25

निम्नलिखित प्रश्न में, चार विकल्पों में से, उस विकल्प का चयन करें जो कोष्ठक में दिए गए शब्द के अनुसार अन्य पुरुष वाचक सर्वनाम का सबसे अच्छा विकल्प है।

Options :

1. ✓ ( यह ) किसने माँगा था?
2. \* ( मैं ) बहुत व्यस्त हूँ।
3. \* ( आप ) लोग चलिए मैं एक ज़रूरी काम ख़त्म करके आता हूँ।
4. \* ( तुम ) किसी भी बात की चिंता मत करो।

Question Number : 90 Question Id : 54592740895 Question Type : MCQ Option Shuffling : Yes  
Correct Marks : 1 Wrong Marks : 0.25

निम्नलिखित प्रश्न में, चार विकल्पों में से, उस विकल्प का चयन करें जो कोष्ठक में दिए गए शब्द के अनुसार अन्य पुरुष वाचक सर्वनाम का सबसे अच्छा विकल्प है।

Options :

1. ✓ ( यह ) किसने माँगा था?
2. \* ( मैं ) बहुत व्यस्त हूँ।

3. \* ( आप ) लोग चलिए मैं एक ज़रूरी काम खत्म करके आता हूँ।

4. \* ( तुम ) किसी भी बात की चिंता मत करो।

Question Number : 91 Question Id : 54592740896 Question Type : MCQ Option Shuffling : Yes

Correct Marks : 1 Wrong Marks : 0.25

निम्नलिखित प्रश्न में, चार विकल्पों में से, उस विकल्प का चयन करें जो शुद्ध वाक्य का सबसे अच्छा विकल्प है।

Options :

1. \* मैं गाने की कसरत करता हूँ।

2. ✓ मैं गाने का अभ्यास करता हूँ।

3. \* मैं गाने का शौक कर रहा हूँ।

4. \* मैं गाने का व्यायाम करता हूँ।

Question Number : 91 Question Id : 54592740896 Question Type : MCQ Option Shuffling : Yes

Correct Marks : 1 Wrong Marks : 0.25

निम्नलिखित प्रश्न में, चार विकल्पों में से, उस विकल्प का चयन करें जो शुद्ध वाक्य का सबसे अच्छा विकल्प है।

Options :

1. \* मैं गाने की कसरत करता हूँ।

2. ✓ मैं गाने का अभ्यास करता हूँ।

3. \* मैं गाने का शौक कर रहा हूँ।

4. \* मैं गाने का व्यायाम करता हूँ।

Question Number : 92 Question Id : 54592740897 Question Type : MCQ Option Shuffling : Yes

Correct Marks : 1 Wrong Marks : 0.25

निम्नलिखित प्रश्न में, चार विकल्पों में से, उस विकल्प का चयन करें जो शुद्ध वाक्य का सबसे अच्छा विकल्प है।

Options :

1. ✓ वन में प्रातःकाल का दृश्य बहुत ही सुहावना होता है।

2. \* वन में प्रातःकाल का दृश्य बहुत ही सुहावना होती है।

3. \* वन का प्रातःकाल पर दृश्य बहुत ही सुहावना होता है।

#### 4. \* वन को प्रातःकाल का दृश्य बहुत ही सुहावना होती है।

Question Number : 92 Question Id : 54592740897 Question Type : MCQ Option Shuffling : Yes  
Correct Marks : 1 Wrong Marks : 0.25

निम्नलिखित प्रश्न में, चार विकल्पों में से, उस विकल्प का चयन करें जो शुद्ध वाक्य का सबसे अच्छा विकल्प है।

Options :

1. ✓ वन में प्रातःकाल का दृश्य बहुत ही सुहावना होता है।
2. \* वन में प्रातःकाल का दृश्य बहुत ही सुहावना होती है।
3. \* वन का प्रातःकाल पर दृश्य बहुत ही सुहावना होता है।
4. \* वन को प्रातःकाल का दृश्य बहुत ही सुहावना होती है।

Question Number : 93 Question Id : 54592740898 Question Type : MCQ Option Shuffling : Yes  
Correct Marks : 1 Wrong Marks : 0.25

निम्नलिखित प्रश्न में, चार विकल्पों में से, उस विकल्प का चयन करें जो विराम चिह्न युक्त वाक्य का सही विकल्प हो

Options :

1. \* जयशंकर प्रसाद ने कहा है जीवन विश्व की संपत्ति है।
2. ✓ जयशंकर प्रसाद ने कहा है - "जीवन विश्व की संपत्ति है।"
3. \* जयशंकर प्रसाद ने कहा है ; "जीवन विश्व की संपत्ति है।"
4. \* जयशंकर प्रसाद ने कहा है "जीवन विश्व की संपत्ति है?"

Question Number : 93 Question Id : 54592740898 Question Type : MCQ Option Shuffling : Yes  
Correct Marks : 1 Wrong Marks : 0.25

निम्नलिखित प्रश्न में, चार विकल्पों में से, उस विकल्प का चयन करें जो विराम चिह्न युक्त वाक्य का सही विकल्प हो

Options :

1. \* जयशंकर प्रसाद ने कहा है जीवन विश्व की संपत्ति है।
2. ✓ जयशंकर प्रसाद ने कहा है - "जीवन विश्व की संपत्ति है।"
3. \* जयशंकर प्रसाद ने कहा है ; "जीवन विश्व की संपत्ति है।"

4. \* जयशंकर प्रसाद ने कहा है "जीवन विश्व की संपत्ति है?"

Question Number : 94 Question Id : 54592740899 Question Type : MCQ Option Shuffling : Yes

Correct Marks : 1 Wrong Marks : 0.25

निम्नलिखित प्रश्न में, चार विकल्पों में से, उस विकल्प का चयन करें जो दिए गए मुहावरे का सही अर्थ वाला विकल्प है।

मुँह ताकना -

Options :

1. \* चुप कर देना।
2. \* उदास होना।
3. ✓ दूसरे पर आश्रित होना।
4. \* मान रखना।

Question Number : 94 Question Id : 54592740899 Question Type : MCQ Option Shuffling : Yes

Correct Marks : 1 Wrong Marks : 0.25

निम्नलिखित प्रश्न में, चार विकल्पों में से, उस विकल्प का चयन करें जो दिए गए मुहावरे का सही अर्थ वाला विकल्प है।

मुँह ताकना -

Options :

1. \* चुप कर देना।
2. \* उदास होना।
3. ✓ दूसरे पर आश्रित होना।
4. \* मान रखना।

Question Number : 95 Question Id : 54592740900 Question Type : MCQ Option Shuffling : Yes

Correct Marks : 1 Wrong Marks : 0.25

निम्नलिखित प्रश्न में, चार विकल्पों में से, उस विकल्प का चयन करें जो दी गई लोकोक्ति का सही अर्थ वाला विकल्प है।

राम मिलाई जोड़ी, एक अंधा एक कोढ़ी -

Options :

1. \* दिखावा करना।
2. \* किसी का काम कोई और करना।
3. \* गलत काम
4. ✓ बराबर का मेल हो जाना।

Question Number : 95 Question Id : 54592740900 Question Type : MCQ Option Shuffling : Yes

Correct Marks : 1 Wrong Marks : 0.25

निम्नलिखित प्रश्न में, चार विकल्पों में से, उस विकल्प का चयन करें जो दी गई लोकोक्ति का सही अर्थ वाला विकल्प है।

राम मिलाई जोड़ी, एक अंधा एक कोढ़ी -

Options :

1. \* दिखावा करना।
2. \* किसी का काम कोई और करना।
3. \* गलत काम
4. ✓ बराबर का मेल हो जाना।

Sub-Section Number:	2
Sub-Section Id:	5459272431
Question Shuffling Allowed :	Yes

Question Id : 54592740901 Question Type : COMPREHENSION Sub Question Shuffling Allowed : Yes Group Comprehension Questions : No

Question Numbers : (96 to 100)

Question Label : Comprehension

इस गद्यांश को ध्यानपूर्वक पढ़ें और चार विकल्पों में से प्रत्येक प्रश्न का सर्वोत्तम उत्तर चुनें।

सारा संसार नीले गगन के तले अनंत काल से रहता आया है। हम थोड़ी दूरी पर ही देखते हैं क्षितिज तक, जहाँ धरती और आकाश हमें मिलते दिखाई देते हैं। लेकिन जब हम वहाँ पहुँचते हैं, तो यह नज़ारा आगे खिसकता चला जाता है। और इस नज़ारे का कोई ओर-छोर हमें नहीं दिखाई देता है। ठीक इसी तरह हमारा जीवन भी है। जिन्दगी की न जाने कितनी उपमाएँ दी जा चुकी हैं, लेकिन कोई भी उपमा पूर्ण नहीं मानी गई, क्योंकि जिन्दगी के इतने पक्ष हैं कि कोई भी उपमा उस पर पूरी तरह फिट नहीं बैठती। बर्नार्ड शॉ जीवन को एक खुली किताब मानते थे, और यह भी मानते थे कि सभी जीवों को समान रूप से जीने का हक है। यह आसमान हमें जिस तरह से भय से छुटकारा दिलाता है, उसी तरह से हमें भी मानव-जाति से इतर जीवों को डर से छुटकारा दिलाकर उन्हें जीने के लिए पूरा अवसर देना चाहिए। दूसरों के जीने के हक को छीनने से बड़ा अपराध या पाप कुछ नहीं हो सकता।

Sub questions

Question Number : 96 Question Id : 54592740902 Question Type : MCQ Option Shuffling : Yes

Correct Marks : 1 Wrong Marks : 0.25

आसमान हमें क्या दिलाता है?

Options :

1. \* साथ-साथ रहने का अनुशासन
2. ✓ भय से छुटकारे का आश्वासन
3. \* भयभीत न करने का आग्रह
4. \* रक्षा करने का वचन

Question Number : 97 Question Id : 54592740903 Question Type : MCQ Option Shuffling : Yes

Correct Marks : 1 Wrong Marks : 0.25

हम बहुत बड़ा अन्याय कर रहे होते हैं, यदि?

Options :

1. \* किसी को लूट लेते हैं।
2. \* किसी को टिकने नहीं देते।
3. ✓ किसी को जीने का अधिकार नहीं देते।

#### 4. \* किसी से दुश्मनी रखते हैं।

Question Number : 98 Question Id : 54592740904 Question Type : MCQ Option Shuffling : Yes  
Correct Marks : 1 Wrong Marks : 0.25

बर्नार्ड शॉ ने जीवन की उपमा किससे दी है?

Options :

1. ✓ खुली पुस्तक से
2. \* सभी जीवों
3. \* क्षितिज से
4. \* पढ़ी जा रही पुस्तक से

Question Number : 99 Question Id : 54592740905 Question Type : MCQ Option Shuffling : Yes  
Correct Marks : 1 Wrong Marks : 0.25

इनमें से कौन - सा क्षितिज का सही अर्थ है?

Options :

1. \* जहाँ धरती और आकाश पास-पास होते हैं।
2. \* जहाँ तक धरती दिखाई पड़ती है।
3. \* जहाँ से धरती और आकाश दिखाई पड़ते।
4. ✓ जहाँ धरती और आसमान मिले हुए दिखाई देते हैं।

Question Number : 100 Question Id : 54592740906 Question Type : MCQ Option Shuffling : Yes  
Correct Marks : 1 Wrong Marks : 0.25

इस अनुच्छेद का कोई उपयुक्त शीर्षक-

Options :

1. \* खुली किताब
2. \* सबका जीवन
3. ✓ जीवन जीने का हक
4. \* मनुष्य जीवन

Question Id : 54592740901 Question Type : COMPREHENSION Sub Question Shuffling Allowed : Yes Group Comprehension  
Questions : No

Question Numbers : (96 to 100)

Question Label : Comprehension



इस गद्यांश को ध्यानपूर्वक पढ़ें और चार विकल्पों में से प्रत्येक प्रश्न का सर्वोत्तम उत्तर चुनें।

सारा संसार नीले गगन के तले अनंत काल से रहता आया है। हम थोड़ी दूरी पर ही देखते हैं क्षितिज तक, जहाँ धरती और आकाश हमें मिलते दिखाई देते हैं। लेकिन जब हम वहाँ पहुँचते हैं, तो यह नज़ारा आगे खिसकता चला जाता है। और इस नज़ारे का कोई ओर-छोर हमें नहीं दिखाई देता है। ठीक इसी तरह हमारा जीवन भी है। जिन्दगी की न जाने कितनी उपमाएँ दी जा चुकी हैं, लेकिन कोई भी उपमा पूर्ण नहीं मानी गई, क्योंकि जिन्दगी के इतने पक्ष हैं कि कोई भी उपमा उस पर पूरी तरह फिट नहीं बैठती। बर्नार्ड शॉ जीवन को एक खुली किताब मानते थे, और यह भी मानते थे कि सभी जीवों को समान रूप से जीने का हक है। यह आसमान हमें जिस तरह से भय से छुटकारा दिलाता है, उसी तरह से हमें भी मानव-जाति से इतर जीवों को डर से छुटकारा दिलाकर उन्हें जीने के लिए पूरा अवसर देना चाहिए। दूसरों के जीने के हक को छीनने से बड़ा अपराध या पाप कुछ नहीं हो सकता।

Sub questions

Question Number : 96 Question Id : 54592740902 Question Type : MCQ Option Shuffling : Yes  
Correct Marks : 1 Wrong Marks : 0.25

आसमान हमें क्या दिलाता है?

Options :

1. \* साथ-साथ रहने का अनुशासन
2. ✓ भय से छुटकारे का आश्वासन
3. \* भयभीत न करने का आग्रह

#### 4. \* रक्षा करने का वचन

Question Number : 97 Question Id : 54592740903 Question Type : MCQ Option Shuffling : Yes  
Correct Marks : 1 Wrong Marks : 0.25

हम बहुत बड़ा अन्याय कर रहे होते हैं, यदि?

Options :

1. \* किसी को लूट लेते हैं।
2. \* किसी को टिकने नहीं देते।
3. ✓ किसी को जीने का अधिकार नहीं देते।
4. \* किसी से दुश्मनी रखते हैं।

Question Number : 98 Question Id : 54592740904 Question Type : MCQ Option Shuffling : Yes  
Correct Marks : 1 Wrong Marks : 0.25

बर्नार्ड शॉ ने जीवन की उपमा किससे दी है?

Options :

1. ✓ खुली पुस्तक से
2. \* सभी जीवों
3. \* क्षितिज से
4. \* पढ़ी जा रही पुस्तक से

Question Number : 99 Question Id : 54592740905 Question Type : MCQ Option Shuffling : Yes  
Correct Marks : 1 Wrong Marks : 0.25

इनमें से कौन - सा क्षितिज का सही अर्थ है?

Options :

1. \* जहाँ धरती और आकाश पास-पास होते हैं।
2. \* जहाँ तक धरती दिखाई पड़ती है।
3. \* जहाँ से धरती और आकाश दिखाई पड़ते।
4. ✓ जहाँ धरती और आसमान मिले हुए दिखाई देते हैं।

Question Number : 100 Question Id : 54592740906 Question Type : MCQ Option Shuffling : Yes

Correct Marks : 1 Wrong Marks : 0.25

इस अनुच्छेद का कोई उपयुक्त शीर्षक-

Options :

1. \* खुली किताब
2. \* सबका जीवन
3. ✓ जीवन जीने का हक
4. \* मनुष्य जीवन

## Discipline1

Group Number :	6
Group Id :	5459272026
Group Maximum Duration :	0
Group Minimum Duration :	0
Show Attended Group? :	No
Edit Attended Group? :	No
Break time:	0
Group Marks:	20
Is this Group for Examiner?:	No
Revisit allowed for group Instructions? :	Yes
Maximum Instruction Time:	0
Minimum Instruction Time:	0

## Discipline1

Section Id :	5459272026
Section Number :	1
Section type :	Online
Mandatory or Optional:	Mandatory
Number of Questions:	20
Number of Questions to be attempted:	20
Section Marks:	20

Sub-Section Number:	1
Sub-Section Id:	5459272432
Question Shuffling Allowed :	Yes

Question Number : 101 Question Id : 54592740907 Question Type : MCQ Option Shuffling : Yes  
Correct Marks : 1 Wrong Marks : 0.25

Who compared society with biological organism?

Options :

1. ✓ Herbert Spencer
2. ✘ Auguste Comte
3. ✘ Karl Marx
4. ✘ Saint Simone

Question Number : 101 Question Id : 54592740907 Question Type : MCQ Option Shuffling : Yes

Correct Marks : 1 Wrong Marks : 0.25

निम्न में से किसने समाज की तुलना जैविक जीवों से की थी?

Options :

1. ✓ हर्बर्ट स्पेंसर
2. ✘ ऑगस्ट कॉमटे
3. ✘ कार्ल मार्क्स
4. ✘ सेंट सिमोन

Question Number : 102 Question Id : 54592740908 Question Type : MCQ Option Shuffling : Yes

Correct Marks : 1 Wrong Marks : 0.25

“The sum total of social relations which human beings establish among themselves in the production of their material lives.” is defined under which of the following concepts?

Options :

1. ✓ Relations of production
2. ✘ Forces of production
3. ✘ Mode of production
4. ✘ Asiatic mode of production

Question Number : 102 Question Id : 54592740908 Question Type : MCQ Option Shuffling : Yes

Correct Marks : 1 Wrong Marks : 0.25

"मानवों द्वारा आपस में बनाए हुए सामाजिक संबंध ही अपने पूर्ण रूप में उनके भौतिक जीवन का निर्माण करते हैं।" निम्न कथन किस अवधारणा से संबंध रखता है?

Options :

1. ✓ उत्पादन के संबंध
2. \* उत्पादन के बल
3. \* उत्पादन का तरीका
4. \* उत्पादन का एशियाई तरीका

Question Number : 103 Question Id : 54592740909 Question Type : MCQ Option Shuffling : Yes  
Correct Marks : 1 Wrong Marks : 0.25

Bruno Bettelheim is strong support of which among the following theories?

Options :

1. ✓ Collective childrearing
2. \* Women's liberation movement
3. \* Biology and the 'expressive' female
4. \* Theory of the emergence of gender identity

Question Number : 103 Question Id : 54592740909 Question Type : MCQ Option Shuffling : Yes  
Correct Marks : 1 Wrong Marks : 0.25

ब्रूनो बेटटेलहाइम निम्न सिद्धांतों में से किसका मजबूती से समर्थन करता है?

Options :

1. ✓ सामूहिक संतानोत्पत्ति
2. \* महिला मुक्ति आंदोलन
3. \* जीवविज्ञान और 'अभिव्यंजक' महिला
4. \* लिंग अभिज्ञान के उद्भव का सिद्धांत

Question Number : 104 Question Id : 54592740910 Question Type : MCQ Option Shuffling : Yes  
Correct Marks : 1 Wrong Marks : 0.25

According to theory of the emergence of gender identity by Sigmund Freud, everyone passes through how many stages of psychosexual development in their life?

Options :

1. \* Three
2. \* Four
3. ✓ Five
4. \* Eight

Question Number : 104 Question Id : 54592740910 Question Type : MCQ Option Shuffling : Yes  
Correct Marks : 1 Wrong Marks : 0.25

सिगमंड फ्रायड द्वारा प्रतिपादित लिंग अभिज्ञान के उद्भव के सिद्धांत के अनुसार, हर व्यक्ति अपने जीवन में मनोवैज्ञानिक विकास के कितने चरणों से गुजरता है?

Options :

1. \* तीन
2. \* चार
3. ✓ पांच
4. \* आठ

Question Number : 105 Question Id : 54592740911 Question Type : MCQ Option Shuffling : Yes  
Correct Marks : 1 Wrong Marks : 0.25

Which among the following sociologists conceives social development as a "process of planned social change designed to promote the well-being of the population as a whole in conjunction with a dynamic process of economic development"?

Options :

1. ✓ James Midgley

2. \* Lionel Tiger

3. \* Robin Fox

4. \* Talcott Parsons

Question Number : 105 Question Id : 54592740911 Question Type : MCQ Option Shuffling : Yes

Correct Marks : 1 Wrong Marks : 0.25

निम्नलिखित समाजशास्त्रियों में से कौन सा समाजशास्त्री सामाजिक विकास को "आर्थिक विकास की एक गतिशील प्रक्रिया के साथ-साथ, आम लोगों की भलाई को बढ़ावा देने के लिए बनाई गई सामाजिक परिवर्तन की प्रक्रिया" के रूप में मान्यता देता है?

Options :

1. ✓ जेम्स मिडगली

2. \* लियोनल टाइगर

3. \* रॉबिन फॉक्स

4. \* टैल्कोट पार्सन्स

Question Number : 106 Question Id : 54592740912 Question Type : MCQ Option Shuffling : Yes

Correct Marks : 1 Wrong Marks : 0.25

\_\_\_\_\_ is a composite statistic used to rank countries by level of 'human development' and separate 'very high human development', 'high human development', 'medium human development', and 'low human development' countries.

Options :

1. ✓ Human Development Index

2. \* Gross Domestic Product

3. \* Millennium Development Goals

4. \* Human Development Report

Question Number : 106 Question Id : 54592740912 Question Type : MCQ Option Shuffling : Yes

Correct Marks : 1 Wrong Marks : 0.25

\_\_\_\_\_ 'मानव विकास' के स्तर के आधार पर देशों को दर्जा देने और 'बहुत उच्च मानव विकास', 'उच्च मानव विकास', 'मध्यम मानव विकास' और 'निम्न मानव विकास' वाले देशों को वर्गीकृत करने का एक समग्र सांख्यिकी उपाय है।

Options :

1. ✓ मानव विकास सूची
2. ✘ सकल घरेलू उत्पाद
3. ✘ मिलेनियम विकास लक्ष्य
4. ✘ मानव विकास रिपोर्ट

Question Number : 107 Question Id : 54592740913 Question Type : MCQ Option Shuffling : Yes  
Correct Marks : 1 Wrong Marks : 0.25

“In all complex societies, the total stock of valued goods is distributed unequally, with the most privileged individuals and families enjoying a disproportionate share of income, power and other valued resources.” This is a definition of \_\_\_\_\_.

Options :

1. ✓ social stratification
2. ✘ cultural stratification
3. ✘ economic stratification
4. ✘ rational stratification

Question Number : 107 Question Id : 54592740913 Question Type : MCQ Option Shuffling : Yes  
Correct Marks : 1 Wrong Marks : 0.25

"सभी जटिल समाजों में, मूल्यवान वस्तुओं की कुल मात्रा का असमान वितरण होता है, जिसमें अधिकांश विशेषाधिकार प्राप्त व्यक्तियों और परिवारों को आय, शक्ति और अन्य मूल्यवान संसाधनों का आनुपातिक रूप से अत्यधिक हिस्सा मिलता है।" यह \_\_\_\_\_ की परिभाषा है।



Options :

1. ✓ सामाजिक स्तरीकरण
2. ✗ सांस्कृतिक स्तरीकरण
3. ✗ आर्थिक स्तरीकरण
4. ✗ विवेकशील स्तरीकरण

Question Number : 108 Question Id : 54592740914 Question Type : MCQ Option Shuffling : Yes

Correct Marks : 1 Wrong Marks : 0.25

The process by which individuals and groups are ranked in a more or less enduring hierarchy of status is known as:

Options :

1. ✗ social inequality
2. ✓ stratification
3. ✗ society
4. ✗ family

Question Number : 108 Question Id : 54592740914 Question Type : MCQ Option Shuffling : Yes

Correct Marks : 1 Wrong Marks : 0.25

वह प्रक्रिया जिसके द्वारा व्यक्तियों और समूहों को स्थिति के अधिक या कम स्थायी पदानुक्रम में व्यवस्थित किया जाता है, कहलाती है:

Options :

1. ✗ सामाजिक असमानता
2. ✓ स्तरीकरण
3. ✗ समाज
4. ✗ परिवार

Question Number : 109 Question Id : 54592740915 Question Type : MCQ Option Shuffling : Yes

Correct Marks : 1 Wrong Marks : 0.25

Davis and Moore formulated a functional theory of stratification in the year:

Options :

1. ✓ 1945

2. ✗ 1948

3. ✗ 1950

4. ✗ 1955

Question Number : 109 Question Id : 54592740915 Question Type : MCQ Option Shuffling : Yes

Correct Marks : 1 Wrong Marks : 0.25

डेविस और मूर ने, किस साल में स्तरीकरण का एक कार्यात्मक सिद्धांत प्रतिपादित किया था:

Options :

1. ✓ 1945

2. ✗ 1948

3. ✗ 1950

4. ✗ 1955

Question Number : 110 Question Id : 54592740916 Question Type : MCQ Option Shuffling : Yes

Correct Marks : 1 Wrong Marks : 0.25

Who contributed 'concept of bureaucracy' and 'concepts of power and authority' in an organisational sociology?

Options :

1. ✗ Karl Marx

2. ✗ Herbert Spencer

3. ✗ Auguste Comte

4. ✓ Max Weber

Question Number : 110 Question Id : 54592740916 Question Type : MCQ Option Shuffling : Yes

Correct Marks : 1 Wrong Marks : 0.25

संगठनात्मक समाजशास्त्र के क्षेत्र में 'नौकरशाही की अवधारणा' और 'सत्ता और अधिकार की अवधारणा' के बारे में योगदान देने का श्रेय किसको जाता है?

Options :

1. \* कार्ल मार्क्स
2. \* हर्बर्ट स्पेंसर
3. \* अगस्टे कॉमटे
4. ✓ मैक्स वेबर

Question Number : 111 Question Id : 54592740917 Question Type : MCQ Option Shuffling : Yes

Correct Marks : 1 Wrong Marks : 0.25

Monasteries fall under which of the following compliance systems?

Options :

1. \* Coercive compliance system
2. \* Utilitarian compliance system
3. ✓ Normative compliance system
4. \* Functionalist sociology

Question Number : 111 Question Id : 54592740917 Question Type : MCQ Option Shuffling : Yes

Correct Marks : 1 Wrong Marks : 0.25

मठ, निम्नलिखित में से किस अनुपालन प्रणाली के तहत आते हैं?

Options :

1. \* अनिवार्य अनुपालन प्रणाली
2. \* उपयोगितावादी अनुपालन प्रणाली
3. ✓ सामान्य अनुपालन प्रणाली
4. \* क्रियात्मक समाजशास्त्र

Question Number : 112 Question Id : 54592740918 Question Type : MCQ Option Shuffling : Yes  
Correct Marks : 1 Wrong Marks : 0.25

According to Amitai Etzioni, which among the following compliance systems alienated lower level participants (i.e. prisoners), who are reluctant members and is governed by force?

Options :

1. ✓ Coercive compliance system
2. ✗ Utilitarian compliance system
3. ✗ Normative compliance system
4. ✗ Functionalist sociology

Question Number : 112 Question Id : 54592740918 Question Type : MCQ Option Shuffling : Yes  
Correct Marks : 1 Wrong Marks : 0.25

अमिताई एज़ियोनी के अनुसार, निम्न अनुपालन प्रणालियों में से कौन सी, निचले स्तर के प्रतिभागियों (अर्थात कैदियों आदि) जो कि अधिक भागीदारी नहीं निभाते हैं और बलपूर्वक शासित होते हैं, को अलग-थलग कर देती है?

Options :

1. ✓ अनिवार्य अनुपालन प्रणाली
2. ✗ उपयोगितावादी अनुपालन प्रणाली
3. ✗ सामान्य अनुपालन प्रणाली
4. ✗ क्रियात्मक समाजशास्त्र

Question Number : 113 Question Id : 54592740919 Question Type : MCQ Option Shuffling : Yes  
Correct Marks : 1 Wrong Marks : 0.25

Which among the following is NOT an objective given by Friedlander?

Options :

1. ✗ To change in painful situation of individuals

2. \* To develop the constructive forces both within and around the individual

3. \* To enhance the democratic and humanistic behavior of the individual

4. ✓ To provide physical or material support

Question Number : 113 Question Id : 54592740919 Question Type : MCQ Option Shuffling : Yes

Correct Marks : 1 Wrong Marks : 0.25

निम्नलिखित में से कौन सा फ्रेडलैंडर द्वारा बताए गए उद्देश्यों में शामिल नहीं है?

Options :

1. \* लोगों की दर्दनाक स्थितियों को बदलना

2. \* व्यक्ति के भीतर और बाहर दोनों ओर रचनात्मक ताकतों को विकसित करना

3. \* व्यक्ति के लोकतांत्रिक और मानवतावादी व्यवहार को बढ़ाना

4. ✓ भौतिक या आर्थिक सहयोग प्रदान करना

Question Number : 114 Question Id : 54592740920 Question Type : MCQ Option Shuffling : Yes

Correct Marks : 1 Wrong Marks : 0.25

Which among the following is the major difference between social reform and social work?

Options :

1. ✓ Social work is a profession, with all the professional characteristics while social reform is a voluntary activity with human instinct.

2. \* Both the concepts have stemmed from the idea of promoting human happiness by reducing sufferings.

3. \* They are based on humanitarian values.

4. \* Most of the social reformers are often identified as social workers.

Question Number : 114 Question Id : 54592740920 Question Type : MCQ Option Shuffling : Yes

Correct Marks : 1 Wrong Marks : 0.25

सामाजिक सुधार और सामाजिक कार्य के बीच प्रमुख अंतर है?

Options :

1. ✓ सामाजिक कार्य एक पेशा है, जिसमें सभी पेशेवर विशेषताएं पाई जाती हैं, जबकि सामाजिक सुधार मानव प्रवृत्ति के अनुरूप की जाने वाली एक स्वैच्छिक गतिविधि है।
2. \* ये दोनों अवधारणाएं मानव मात्र का कष्ट कम करने और प्रसन्नता बढ़ाने के विचार से उपजी हैं।
3. \* ये मानवीय मूल्यों पर आधारित हैं।
4. \* अधिकांश समाज सुधारकों को अक्सर सामाजिक कार्यकर्ताओं के रूप में ही पहचाना जाता है।

Question Number : 115 Question Id : 54592740921 Question Type : MCQ Option Shuffling : Yes

Correct Marks : 1 Wrong Marks : 0.25

As per the categorisation, offered by Karel Vasak, there are \_\_\_\_\_ generations of human rights.

Options :

1. \* two
2. ✓ three
3. \* four
4. \* five

Question Number : 115 Question Id : 54592740921 Question Type : MCQ Option Shuffling : Yes

Correct Marks : 1 Wrong Marks : 0.25

कैरल वासाक द्वारा दिए गए वर्गीकरण के अनुसार, मानव अधिकारों की \_\_\_\_\_ पीढ़ियां होती हैं।

Options :

1. ✖ दो
2. ✔ तीन
3. ✖ चार
4. ✖ पांच

Question Number : 116 Question Id : 54592740922 Question Type : MCQ Option Shuffling : Yes  
Correct Marks : 1 Wrong Marks : 0.25

The Mental Health Act came in force in the year:

Options :

1. ✖ 1992
2. ✔ 1987
3. ✖ 1995
4. ✖ 1991

Question Number : 116 Question Id : 54592740922 Question Type : MCQ Option Shuffling : Yes  
Correct Marks : 1 Wrong Marks : 0.25

मानसिक स्वास्थ्य अधिनियम (मेंटल हेल्थ एक्ट) किस साल में लागू हुआ था:

Options :

1. ✖ 1992
2. ✔ 1987
3. ✖ 1995
4. ✖ 1991

Question Number : 117 Question Id : 54592740923 Question Type : MCQ Option Shuffling : Yes  
Correct Marks : 1 Wrong Marks : 0.25

Which among the following should NOT be undertaken for the preadolescent mentally retarded children?

Options :

1. ✖ Speech training

2. ✓ Horticulture training

3. ✖ Habit formation

4. ✖ Sense training

Question Number : 117 Question Id : 54592740923 Question Type : MCQ Option Shuffling : Yes

Correct Marks : 1 Wrong Marks : 0.25

निम्नलिखित में से कौन सा प्रशिक्षण मानसिक रूप से विमंदित बच्चों को नहीं दिया जाना चाहिए?

Options :

1. ✖ भाषण प्रशिक्षण

2. ✓ बागवानी प्रशिक्षण

3. ✖ आदत निर्माण

4. ✖ संवेदना प्रशिक्षण

Question Number : 118 Question Id : 54592740924 Question Type : MCQ Option Shuffling : Yes

Correct Marks : 1 Wrong Marks : 0.25

When was community development programme introduced in India?

Options :

1. ✓ 1952

2. ✖ 1955

3. ✖ 1951

4. ✖ 1962

Question Number : 118 Question Id : 54592740924 Question Type : MCQ Option Shuffling : Yes

Correct Marks : 1 Wrong Marks : 0.25

भारत में सामुदायिक विकास कार्यक्रम किस वर्ष में शुरू किया गया था?

Options :

1. ✓ 1952

2. ✖ 1955



3. \* 1951

4. \* 1962

Question Number : 119 Question Id : 54592740925 Question Type : MCQ Option Shuffling : Yes  
Correct Marks : 1 Wrong Marks : 0.25

Which among the following is an example of community development programme?

Options :

1. \* Mudra Yojana

2. ✓ Panchayat

3. \* Mission Mangal

4. \* Demonetisation

Question Number : 119 Question Id : 54592740925 Question Type : MCQ Option Shuffling : Yes  
Correct Marks : 1 Wrong Marks : 0.25

निम्नलिखित में से कौन सा सामुदायिक विकास कार्यक्रम का एक उदाहरण है?

Options :

1. \* मुद्रा योजना

2. ✓ पंचायत

3. \* मिशन मंगल

4. \* विमुद्रीकरण

Question Number : 120 Question Id : 54592740926 Question Type : MCQ Option Shuffling : Yes  
Correct Marks : 1 Wrong Marks : 0.25

The key purpose of \_\_\_\_\_ is to build communities based on justice, equality and mutual respect.

Options :

1. \* 5 year plan

2. \* rural development

3. ✓ community development

4. ✘ co-operatives

Question Number : 120 Question Id : 54592740926 Question Type : MCQ Option Shuffling : Yes

Correct Marks : 1 Wrong Marks : 0.25

\_\_\_\_\_ का मुख्य उद्देश्य न्याय, समानता और आपसी सम्मान पर आधारित समुदायों का निर्माण करना है।

Options :

1. ✘ पंचवर्षीय योजना

2. ✘ ग्रामीण विकास

3. ✓ सामुदायिक विकास

4. ✘ सहकारी समीति

## Discipline2

Group Number :	7
Group Id :	5459272027
Group Maximum Duration :	0
Group Minimum Duration :	0
Show Attended Group? :	No
Edit Attended Group? :	No
Break time:	0
Group Marks:	20
Is this Group for Examiner?:	No
Revisit allowed for group Instructions? :	Yes
Maximum Instruction Time:	0
Minimum Instruction Time:	0

## Discipline2

Section Id :	5459272027
Section Number :	1
Section type :	Online
Mandatory or Optional:	Mandatory
Number of Questions:	20
Number of Questions to be attempted:	20
Section Marks:	20

Sub-Section Number: 1  
Sub-Section Id: 5459272433  
Question Shuffling Allowed : Yes

Question Number : 121 Question Id : 54592740927 Question Type : MCQ Option Shuffling : Yes  
Correct Marks : 1 Wrong Marks : 0.25

Which among the following is NOT a theory of urban growth?

Options :

1. ✖ Concentric zone model
2. ✖ Sectors model
3. ✖ Multiple nuclei model
4. ✔ Single nuclei model

Question Number : 121 Question Id : 54592740927 Question Type : MCQ Option Shuffling : Yes  
Correct Marks : 1 Wrong Marks : 0.25

निम्नलिखित में से कौन सा शहरी विकास का सिद्धांत नहीं है?

Options :

1. ✖ सांकेन्द्रिक प्रतिरूप
2. ✖ विभाग प्रतिरूप
3. ✖ एकाधिक नाभिक प्रतिरूप
4. ✔ एकल नाभिक प्रतिरूप

Question Number : 122 Question Id : 54592740928 Question Type : MCQ Option Shuffling : Yes  
Correct Marks : 1 Wrong Marks : 0.25

According to Burgess, an urban area consists of how many concentric zones which represent areas of functional differentiation and expand rapidly from the Justness centre?

Options :

1. ✖ Three
2. ✖ Four
3. ✔ Five
4. ✖ Six

Question Number : 122 Question Id : 54592740928 Question Type : MCQ Option Shuffling : Yes

Correct Marks : 1 Wrong Marks : 0.25

बर्गस के अनुसार, किसी शहरी क्षेत्र में ऐसे कितने संकेंद्रित क्षेत्र होते हैं जो कार्यात्मक भेदभाव के क्षेत्रों को निरूपित करते हैं और औचित्य केन्द्रों से तीव्र गति से विस्तारित होते हैं?

Options :

1. \* तीन
2. \* चार
3. ✓ पांच
4. \* छह

Question Number : 123 Question Id : 54592740929 Question Type : MCQ Option Shuffling : Yes

Correct Marks : 1 Wrong Marks : 0.25

Who has developed 'Multiple Nuclei Model' of urban growth?

Options :

1. \* Ernest Burgess
2. \* Homer Hyot
3. ✓ Chauncy Harris and Edward L Ullaman
4. \* Walter Firey

Question Number : 123 Question Id : 54592740929 Question Type : MCQ Option Shuffling : Yes

Correct Marks : 1 Wrong Marks : 0.25

शहरी विकास का 'मल्टीपल न्यूक्लि प्रतिरूप या एकाधिक नाभिक प्रतिरूप' किसने विकसित किया?

Options :

1. \* अर्नेस्ट बर्गस
2. \* होमर ह्योट
3. ✓ चॉन्सी हैरिस और एडवर्ड एल उलेमान
4. \* वाल्टर फिरे

Question Number : 124 Question Id : 54592740930 Question Type : MCQ Option Shuffling : Yes

Correct Marks : 1 Wrong Marks : 0.25

Who has developed 'Symbolic Approach Model' of urban growth?

Options :

1. \* Ernest Burgess
2. \* Homor Hyot
3. \* Chauncy Harris and Edward L Ullaman
4. ✓ Walter Firey

Question Number : 124 Question Id : 54592740930 Question Type : MCQ Option Shuffling : Yes

Correct Marks : 1 Wrong Marks : 0.25

शहरी विकास का सिंबोलीक दृष्टिकोण प्रतिरूप किसने विकसित किया?

Options :

1. \* अर्नेस्ट बर्गस
2. \* होमर हयोट
3. \* चॉन्सी हैरिस और एडवर्ड एल उलेमान
4. ✓ वाल्टर फिरे

Question Number : 125 Question Id : 54592740931 Question Type : MCQ Option Shuffling : Yes

Correct Marks : 1 Wrong Marks : 0.25

\_\_\_\_\_ upholds the principle that all men are entitled to fulfill the basic human needs, regardless of superficial differences such as economic disparity, disparity based on class, caste, gender, religion, citizenship, disability etc.

Options :

1. \* Social work
2. ✓ Social justice
3. \* Social reform
4. \* Social well being

Question Number : 125 Question Id : 54592740931 Question Type : MCQ Option Shuffling : Yes

Correct Marks : 1 Wrong Marks : 0.25

\_\_\_\_\_ इस सिद्धांत का समर्थन करता है कि सभी लोग, आर्थिक असमानता, वर्ग, जाति, लिंग, धर्म, नागरिकता, विकलांगता जैसे सतही मतभेदों को नजरअंदाज करते हुए, बुनियादी मानवीय आवश्यकताओं को पूरा करने का अधिकार रखते हैं।

Options :

1. \* सामाजिक कार्य
2. ✓ सामाजिक न्याय
3. \* सामाजिक सुधार
4. \* सामाजिक खुशहाली

Question Number : 126 Question Id : 54592740932 Question Type : MCQ Option Shuffling : Yes

Correct Marks : 1 Wrong Marks : 0.25

Which community in India was mainly affected by untouchability?

Options :

1. \* Brahmins
2. \* Kshatriyas
3. ✓ Schedule castes
4. \* Purohits

Question Number : 126 Question Id : 54592740932 Question Type : MCQ Option Shuffling : Yes

Correct Marks : 1 Wrong Marks : 0.25

भारत में अस्पृश्यता से मुख्य रूप से प्रभावित समुदाय था?

Options :

1. \* ब्राह्मण
2. \* क्षत्रिय
3. ✓ अनुसूचित जातियां
4. \* पुरोहित

Question Number : 127 Question Id : 54592740933 Question Type : MCQ Option Shuffling : Yes  
Correct Marks : 1 Wrong Marks : 0.25

Which among the following is an example of social injustice towards children?

Options :

1. ✖ Poverty
2. ✔ Child labour
3. ✖ Gender discrimination
4. ✖ Bonded labour

Question Number : 127 Question Id : 54592740933 Question Type : MCQ Option Shuffling : Yes  
Correct Marks : 1 Wrong Marks : 0.25

निम्नलिखित में से कौन सा बच्चों के प्रति सामाजिक अन्याय का एक उदाहरण है?

Options :

1. ✖ गरीबी
2. ✔ बाल श्रम
3. ✖ लैंगिक भेदभाव
4. ✖ बंधुआ मजदूरी

Question Number : 128 Question Id : 54592740934 Question Type : MCQ Option Shuffling : Yes  
Correct Marks : 1 Wrong Marks : 0.25

Which among the following is a NEGATIVE indicator of social development?

Options :

1. ✖ Elimination of poverty
2. ✖ Expansion of education
3. ✔ Decreasing in the level of employment
4. ✖ Protection and improvement of health

Question Number : 128 Question Id : 54592740934 Question Type : MCQ Option Shuffling : Yes  
Correct Marks : 1 Wrong Marks : 0.25

निम्नलिखित में से कौन सा सामाजिक विकास का एक संकेतक है?

Options :

1. \* गरीबी हटाना
2. \* शिक्षा का विस्तार
3. ✓ रोजगार के स्तर में कमी
4. \* स्वास्थ्य की सुरक्षा और इसमें सुधार

Question Number : 129 Question Id : 54592740935 Question Type : MCQ Option Shuffling : Yes

Correct Marks : 1 Wrong Marks : 0.25

Who has defined social development 'as a process of bringing about totality of the socio-economic, political, social and cultural development of the society'?

Options :

1. ✓ MS Gore
2. \* UNO
3. \* Walter Firey
4. \* Ernest Burgess

Question Number : 129 Question Id : 54592740935 Question Type : MCQ Option Shuffling : Yes

Correct Marks : 1 Wrong Marks : 0.25

'समाज में सामाजिक-आर्थिक, राजनैतिक, सामाजिक और सांस्कृतिक विकास की समग्रता लाने की प्रक्रिया सामाजिक विकास है' सामाजिक विकास की उक्त परिभाषा किसने दी?

Options :

1. ✓ एमएस गोर
2. \* UNO
3. \* वाल्टर फिरे
4. \* अर्नेस्ट बर्गस



Question Number : 130 Question Id : 54592740936 Question Type : MCQ Option Shuffling : Yes  
Correct Marks : 1 Wrong Marks : 0.25

According to Louis Wirth, which among the following are the three fundamental features of a city?

Options :

1. ✖ Modernisation, population size and gender ratio
2. ✔ Population size, density and heterogeneity
3. ✖ Population size, density and Homogeneity
4. ✖ Area, population size and gender ratio

Question Number : 130 Question Id : 54592740936 Question Type : MCQ Option Shuffling : Yes  
Correct Marks : 1 Wrong Marks : 0.25

लुई विर्थ के अनुसार, निम्नलिखित में से कौन सी किसी शहर की तीन मौलिक विशेषताएं हैं?

Options :

1. ✖ आधुनिकीकरण, जनसंख्या का आकार और लिंग अनुपात
2. ✔ जनसंख्या का आकार, घनत्व और विविधता
3. ✖ जनसंख्या का आकार, घनत्व और समरूपता
4. ✖ क्षेत्रफल, जनसंख्या का आकार और लिंग अनुपात

Question Number : 131 Question Id : 54592740937 Question Type : MCQ Option Shuffling : Yes  
Correct Marks : 1 Wrong Marks : 0.25

Urbanity and size of community is \_\_\_\_\_ correlated in urban community.

Options :

1. ✔ positively
2. ✖ negatively
3. ✖ vaguely
4. ✖ slightly

Question Number : 131 Question Id : 54592740937 Question Type : MCQ Option Shuffling : Yes  
Correct Marks : 1 Wrong Marks : 0.25

शहरी समुदाय में समुदाय के आकार और शहरीकरण के बीच \_\_\_\_\_ सहसंबद्ध होता है।

Options :

1. ✓ सकारात्मक
2. ✗ नकारात्मक
3. ✗ अनिश्चित
4. ✗ आंशिक

Question Number : 132 Question Id : 54592740938 Question Type : MCQ Option Shuffling : Yes

Correct Marks : 1 Wrong Marks : 0.25

The substantive issues of contemporary political sociology fall into how many major areas?

Options :

1. ✗ Four
2. ✗ Five
3. ✓ Six
4. ✗ Eight

Question Number : 132 Question Id : 54592740938 Question Type : MCQ Option Shuffling : Yes

Correct Marks : 1 Wrong Marks : 0.25

समकालीन राजनैतिक समाजशास्त्र की मूल समस्याओं को कितने प्रमुख क्षेत्रों में विभाजित किया गया है?

Options :

1. ✗ चार
2. ✗ पांच
3. ✓ छह
4. ✗ आठ

Question Number : 133 Question Id : 54592740939 Question Type : MCQ Option Shuffling : Yes

Correct Marks : 1 Wrong Marks : 0.25

According to the modes of orientation, Weber has talk about four types of social action. Which among the following does NOT represent weber's social action?

Options :

1. \* Rational action with reference to goals
2. \* Rational action with reference to values
3. \* Affective action
4. ✓ Modern action

Question Number : 133 Question Id : 54592740939 Question Type : MCQ Option Shuffling : Yes

Correct Marks : 1 Wrong Marks : 0.25

अभिविन्यास के तरीकों के अनुसार, वेबर ने चार प्रकार की सामाजिक कार्यवाहियों का वर्णन किया है। निम्नलिखित में से कौन सी वेबर द्वारा बताई गई सामाजिक कार्यवाही नहीं है?

Options :

1. \* लक्ष्यों के संदर्भ में विवेकशील कार्यवाही
2. \* मूल्यों के संदर्भ में विवेकशील कार्यवाही
3. \* प्रभावी कार्यवाही
4. ✓ आधुनिक कार्यवाही

Question Number : 134 Question Id : 54592740940 Question Type : MCQ Option Shuffling : Yes

Correct Marks : 1 Wrong Marks : 0.25

\_\_\_\_\_ involves the individual who considers ends, and on some systematic basis decide what is the best means or course of action to pursue in order to achieve these ends. This form of rationality can considered to be pragmatic in that it provides individuals with a way of pursuing practical ends.

Options :

1. ✓ Practical rationality
2. \* Theoretical rationality

### 3. \* Substantive rationality

### 4. \* Formal rationality

Question Number : 134 Question Id : 54592740940 Question Type : MCQ Option Shuffling : Yes

Correct Marks : 1 Wrong Marks : 0.25

\_\_\_\_\_ में उन व्यक्तियों को शामिल किया जाता है जो अंत का निर्धारण करते हैं, और व्यवस्थित आधार पर निर्णय लेते हैं कि इन अंतों को प्राप्त करने के लिए कार्यवाही करने का सबसे अच्छा साधन या तरीका कौन सा होगा। विवेकशीलता के इस रूप को व्यावहारिक माना जा सकता है चूंकि यह व्यावहारिक अंतों को आगे बढ़ाने का एक तरीका प्रदान करती है।

Options :

1. ✓ व्यावहारिक विवेकशीलता
2. \* सैद्धांतिक विवेकशीलता
3. \* मौलिक विवेकशीलता
4. \* औपचारिक विवेकशीलता

Question Number : 135 Question Id : 54592740941 Question Type : MCQ Option Shuffling : Yes

Correct Marks : 1 Wrong Marks : 0.25

Which article of the United Nations Universal Declaration of Human Rights (UDHR) states, “All human beings are born free and equal in dignity and rights. They are endowed with reason and conscience and should act towards one another in a spirit of brotherhood.”?

Options :

1. \* Article 15
2. ✓ Article 1
3. \* Article 5
4. \* Article 35

Question Number : 135 Question Id : 54592740941 Question Type : MCQ Option Shuffling : Yes

Correct Marks : 1 Wrong Marks : 0.25

संयुक्त राष्ट्र यूनिवर्सल डिक्लेरेशन ऑफ ह्यूमन राइट्स (UDHR) के किस अनुच्छेद में वर्णित है कि, “सभी मनुष्य सम्मान और अधिकारों के संदर्भ में आजाद और समान पैदा होते हैं। इन सभी में तर्क और विवेक की क्षमता होती है, तथा इन सभी को भाईचारे की भावना से रहना चाहिए।”

Options :

1. ✖ अनुच्छेद 15
2. ✔ अनुच्छेद 1
3. ✖ अनुच्छेद 5
4. ✖ अनुच्छेद 35

Question Number : 136 Question Id : 54592740942 Question Type : MCQ Option Shuffling : Yes

Correct Marks : 1 Wrong Marks : 0.25

Which among the following is NOT a fundamental right enshrined in the constitution of India and is also not coming under the human right?

Options :

1. ✖ Right to equality
2. ✖ Right to freedom
3. ✔ Right to live in any part of the country
4. ✖ Right against exploitation

Question Number : 136 Question Id : 54592740942 Question Type : MCQ Option Shuffling : Yes

Correct Marks : 1 Wrong Marks : 0.25

निम्नलिखित में से कौन सा न तो भारतीय संविधान के तहत प्रदत्त मौलिक अधिकार है और न ही मानव अधिकारों के तहत आता है?

Options :

1. \* समानता का अधिकार
2. \* स्वतंत्रता का अधिकार
3. ✓ देश की किसी भी भाग में जीवनयापन करने का अधिकार
4. \* शोषण के खिलाफ अधिकार

Question Number : 137 Question Id : 54592740943 Question Type : MCQ Option Shuffling : Yes  
Correct Marks : 1 Wrong Marks : 0.25

Compensation in cash or kind for death, partial or total disability and occupational diseases and other benefits like Sickness benefits, Disablement benefits, Dependents benefits, Medical benefits and Maternity benefits are covered under which act of Indian constitution?

Options :

1. \* Employees State Insurance Act
2. ✓ Workmen Compensation Act
3. \* Employees Provident Fund and Miscellaneous Provision Act
4. \* Employees Pension Scheme

Question Number : 137 Question Id : 54592740943 Question Type : MCQ Option Shuffling : Yes  
Correct Marks : 1 Wrong Marks : 0.25

मृत्यु, आंशिक या पूर्ण विकलांगता और व्यावसायिक रोगों के होने पर नकद या किसी तरह की क्षतिपूर्ति और अन्य लाभ जैसे बीमारी लाभ, विकलांगता लाभ, आश्रित लाभ, चिकित्सा लाभ और मातृत्व लाभ आदि, भारतीय संविधान के किस अधिनियम के तहत आते हैं?

Options :

1. \* कर्मचारी राज्य बीमा अधिनियम
2. ✓ कामगार मुआवजा अधिनियम
3. \* कर्मचारी भविष्य निधि और विविध प्रावधान अधिनियम

#### 4. \* कर्मचारी पेंशन योजना

Question Number : 138 Question Id : 54592740944 Question Type : MCQ Option Shuffling : Yes  
Correct Marks : 1 Wrong Marks : 0.25

What is the minimum eligibility for payment of gratuity under 'Payment of Gratuity Act, 1972'?

Options :

1. ✓ Persons having served for at least 5 years continuously
2. \* Persons having served for at least 10 years continuously
3. \* Persons having served for at least 15 years continuously
4. \* Persons having served for at least 20 years continuously

Question Number : 138 Question Id : 54592740944 Question Type : MCQ Option Shuffling : Yes  
Correct Marks : 1 Wrong Marks : 0.25

'पेमेंट ऑफ ग्रेच्युटी एक्ट, 1972' के तहत ग्रेच्युटी के भुगतान हेतु न्यूनतम पात्रता क्या है?

Options :

1. ✓ कम से कम 5 वर्षों की लगातार सेवा अवधि पूरी करने वाले व्यक्ति को
2. \* कम से कम 10 वर्षों की लगातार सेवा अवधि पूरी करने वाले व्यक्ति को
3. \* कम से कम 15 वर्षों की लगातार सेवा अवधि पूरी करने वाले व्यक्ति को
4. \* कम से कम 20 वर्षों की लगातार सेवा अवधि पूरी करने वाले व्यक्ति को

Question Number : 139 Question Id : 54592740945 Question Type : MCQ Option Shuffling : Yes  
Correct Marks : 1 Wrong Marks : 0.25

What is the benefit under 'The Maternity Benefit Act, 1961'?

Options :

1. ✓ Leave with pay up to 6 months

2. \* Leave with pay up to 3 months

3. \* Leave with pay up to 9 months

4. \* Leave with pay up to 7 months

Question Number : 139 Question Id : 54592740945 Question Type : MCQ Option Shuffling : Yes

Correct Marks : 1 Wrong Marks : 0.25

'मातृत्व लाभ अधिनियम, 1961' के तहत प्रदत्त लाभ है?

Options :

1. ✓ 6 महीने का सैतनिक अवकाश

2. \* 3 महीने का सैतनिक अवकाश

3. \* 9 महीने का सैतनिक अवकाश

4. \* 7 महीने का सैतनिक अवकाश

Question Number : 140 Question Id : 54592740946 Question Type : MCQ Option Shuffling : Yes

Correct Marks : 1 Wrong Marks : 0.25

Which among the following schemes is NOT covered under 'Employees Provident Fund and Miscellaneous Provision Act'?

Options :

1. \* Employees Provident Fund Scheme, 1952

2. ✓ Payment of Gratuity Act, 1972

3. \* Employees Deposit Linked Insurance Scheme, 1976

4. \* Employees Pension Scheme, 1995

Question Number : 140 Question Id : 54592740946 Question Type : MCQ Option Shuffling : Yes

Correct Marks : 1 Wrong Marks : 0.25

'कर्मचारी भविष्य निधि और विविध प्रावधान अधिनियम' में निम्न में से कौन सी योजना शामिल नहीं है?

Options :

1. \* कर्मचारी भविष्य निधि योजना, 1952

2. ✓ ग्रेच्युटी भुगतान अधिनियम, 1972



3. \* कर्मचारी जमा आधारित बीमा योजना, 1976

4. \* कर्मचारी पेंशन योजना, 1995

### Discipline3

Group Number :	8
Group Id :	5459272028
Group Maximum Duration :	0
Group Minimum Duration :	0
Show Attended Group? :	No
Edit Attended Group? :	No
Break time:	0
Group Marks:	20
Is this Group for Examiner? :	No
Revisit allowed for group Instructions? :	Yes
Maximum Instruction Time:	0
Minimum Instruction Time:	0

### Discipline3

Section Id :	5459272028
Section Number :	1
Section type :	Online
Mandatory or Optional:	Mandatory
Number of Questions:	20
Number of Questions to be attempted:	20
Section Marks:	20

Sub-Section Number:	1
Sub-Section Id:	5459272434
Question Shuffling Allowed :	Yes

Question Number : 141 Question Id : 54592740947 Question Type : MCQ Option Shuffling : Yes

Correct Marks : 1 Wrong Marks : 0.25

Which among the following is NOT covered under child welfare services of social work?

Options :

1. \* Daycare centres

2. \* Recreational and cultural facilities

3. \* Orphanage

## 4. ✓ Driving schools

Question Number : 141 Question Id : 54592740947 Question Type : MCQ Option Shuffling : Yes

Correct Marks : 1 Wrong Marks : 0.25

निम्नलिखित में से कौन सामाजिक कार्यो की बाल कल्याण सेवाओं की श्रेणी में नहीं रखा जा सकता है?

Options :

1. ✖ डे-केयर केन्द्र
2. ✖ मनोरंजन और सांस्कृतिक सुविधाएं
3. ✖ अनाथालय
4. ✓ ड्राइविंग स्कूल

Question Number : 142 Question Id : 54592740948 Question Type : MCQ Option Shuffling : Yes

Correct Marks : 1 Wrong Marks : 0.25

What characteristic is required in a social worker engaged in family welfare services?

Options :

1. ✓ Knowledge on human relationship
2. ✖ Financial knowledge
3. ✖ Political knowledge
4. ✖ Socio-economic knowledge

Question Number : 142 Question Id : 54592740948 Question Type : MCQ Option Shuffling : Yes

Correct Marks : 1 Wrong Marks : 0.25

परिवार कल्याण सेवाओं में कार्यरत सामाजिक कार्यकर्ता के लिए आवश्यक विशेषता है?

Options :

1. ✓ मानवीय संबंधों का ज्ञान
2. ✖ वित्तीय ज्ञान
3. ✖ राजनैतिक ज्ञान

## 4. \* सामाजिक-आर्थिक ज्ञान

Question Number : 143 Question Id : 54592740949 Question Type : MCQ Option Shuffling : Yes  
Correct Marks : 1 Wrong Marks : 0.25

Greenfield (1969) divides health professionals into four separate groups. Which among the following is NOT a part of it?

Options :

1. \* The autonomous professionals
2. \* The allied health professionals
3. \* The allied health technicians
4. ✓ The allied health teachers

Question Number : 143 Question Id : 54592740949 Question Type : MCQ Option Shuffling : Yes  
Correct Marks : 1 Wrong Marks : 0.25

ग्रीनफील्ड (1969) ने स्वास्थ्य पेशेवरों को चार अलग-अलग समूहों में विभाजित किया था। निम्नलिखित में से कौन सा विकल्प उन समूहों का हिस्सा नहीं है?

Options :

1. \* स्वायत्त पेशेवर
2. \* संबद्ध स्वास्थ्य पेशेवर
3. \* संबद्ध स्वास्थ्य तकनीशियन
4. ✓ संबद्ध स्वास्थ्य शिक्षक

Question Number : 144 Question Id : 54592740950 Question Type : MCQ Option Shuffling : Yes  
Correct Marks : 1 Wrong Marks : 0.25

Diseases like cardiovascular diseases, cancer, leprosy, HIV/AIDS etc. can be classified under:

Options :

1. ✓ chronically ill
2. \* physically disabled

3. \* psychosomatic disorders

4. \* Psychological problems

Question Number : 144 Question Id : 54592740950 Question Type : MCQ Option Shuffling : Yes

Correct Marks : 1 Wrong Marks : 0.25

हृदय रोगों, कैंसर, कुष्ठ, एचआईवी/एड्स आदि के रोगियों को निम्न श्रेणी के अंतर्गत वर्गीकृत किया जा सकता है:

Options :

1. ✓ लंबे समय से बीमार

2. \* शारीरिक रूप से अक्षम

3. \* मनो-दैहिक विकार

4. \* मनोवैज्ञानिक समस्याएं

Question Number : 145 Question Id : 54592740951 Question Type : MCQ Option Shuffling : Yes

Correct Marks : 1 Wrong Marks : 0.25

What is the main reason to understand the human behavior?

Options :

1. ✓ Individuals are different

2. \* Individuals are alike

3. \* Economic development of the country

4. \* To cure physical ailments

Question Number : 145 Question Id : 54592740951 Question Type : MCQ Option Shuffling : Yes

Correct Marks : 1 Wrong Marks : 0.25

मानव व्यवहार को समझने का मुख्य कारण है?

Options :

1. ✓ सभी व्यक्तियों का अलग-अलग होना

2. \* सभी व्यक्तियों का एक जैसा होना

3. \* देश का आर्थिक विकास करना

4. \* शारीरिक रोगों के इलाज के लिए

Question Number : 146 Question Id : 54592740952 Question Type : MCQ Option Shuffling : Yes

Correct Marks : 1 Wrong Marks : 0.25

Which model of behaviour emphasises the positive and free-will factors of human beings and uses concepts such as expectancy, demand and incentive?

Options :

1. ✖ Internal model
2. ✖ Behaviouristic model
3. ✔ Cognitive model
4. ✖ Superstitious model

Question Number : 146 Question Id : 54592740952 Question Type : MCQ Option Shuffling : Yes

Correct Marks : 1 Wrong Marks : 0.25

व्यवहार का कौन सा प्रतिरूप, मानवों में सकारात्मकता और स्वतंत्र इच्छा जैसे कारकों को अधिक महत्व देता है और प्रत्याशा, मांग और प्रोत्साहन जैसी अवधारणाओं का उपयोग करता है?

Options :

1. ✖ आंतरिक प्रतिरूप
2. ✖ व्यवहार प्रतिरूप
3. ✔ संज्ञानात्मक प्रतिरूप
4. ✖ अंधविश्वासी प्रतिरूप

Question Number : 147 Question Id : 54592740953 Question Type : MCQ Option Shuffling : Yes

Correct Marks : 1 Wrong Marks : 0.25

Sensing types of person:

Options :

1. ✔ likes an established way of doing things
2. ✖ likes solving new problems
3. ✖ reaches conclusion quickly
4. ✖ frequently makes errors of fact

Question Number : 147 Question Id : 54592740953 Question Type : MCQ Option Shuffling : Yes

Correct Marks : 1 Wrong Marks : 0.25

संवेदनशील प्रकार के व्यक्ति:

Options :

1. ✓ किसी भी काम को एक स्थापित तरीके से ही करना चाहते हैं
2. ✗ नई चुनौतियों को हल करना पसंद करते हैं
3. ✗ जल्दी से नतीजे पर पहुंच जाते हैं
4. ✗ अक्सर तथ्यात्मक गलतियां कर बैठते हैं

Question Number : 148 Question Id : 54592740954 Question Type : MCQ Option Shuffling : Yes

Correct Marks : 1 Wrong Marks : 0.25

Intuitive types of person:

Options :

1. ✗ tends to be good at precise work
2. ✗ seldom makes errors of fact
3. ✗ are patient with routine details
4. ✓ likes solving new problems

Question Number : 148 Question Id : 54592740954 Question Type : MCQ Option Shuffling : Yes

Correct Marks : 1 Wrong Marks : 0.25

सहज प्रकार के या इन्ट्यूसिव व्यक्ति:

Options :

1. ✗ किसी काम को सटीक तरीके से करते हैं
2. ✗ तथ्यात्मक गलतियां कभी-कभार ही करते हैं
3. ✗ नियमित विवरणों के साथ धैर्य से पेश आते हैं
4. ✓ नई समस्याओं और चुनौतियों को हल करना पसंद करते हैं

Question Number : 149 Question Id : 54592740955 Question Type : MCQ Option Shuffling : Yes

Correct Marks : 1 Wrong Marks : 0.25

At what stage of life a person resolves the basic crisis of trust vs. mistrust?

Options :

1. ✓ Infancy
2. ✘ Early childhood
3. ✘ Play age
4. ✘ School age

Question Number : 149 Question Id : 54592740955 Question Type : MCQ Option Shuffling : Yes

Correct Marks : 1 Wrong Marks : 0.25

व्यक्ति, जीवन के किस चरण में, विश्वास बनाम अविश्वास के मूल संकट का समाधान करता है?

Options :

1. ✓ नवजात
2. ✘ बचपन
3. ✘ खेलने की उम्र
4. ✘ स्कूल जाने की उम्र

Question Number : 150 Question Id : 54592740956 Question Type : MCQ Option Shuffling : Yes

Correct Marks : 1 Wrong Marks : 0.25

At what stage crisis of the teenage years gains a sense of identity Rather than to become confused about who you are?

Options :

1. ✘ Infancy
2. ✘ Early childhood
3. ✘ Play age
4. ✓ Adolescence

Question Number : 150 Question Id : 54592740956 Question Type : MCQ Option Shuffling : Yes

Correct Marks : 1 Wrong Marks : 0.25

किशोरवय वर्षों का संकट किस चरण में, आपकी अपनी पहचान के प्रति असमंजस के बजाय पहचान की एक अनुभूति प्राप्त कर लेता है?

Options :

1. ✖ नवजात
2. ✖ बचपन
3. ✖ खेलने की उम्र
4. ✔ किशोरावस्था

Question Number : 151 Question Id : 54592740957 Question Type : MCQ Option Shuffling : Yes  
Correct Marks : 1 Wrong Marks : 0.25

\_\_\_\_\_ provided knowledge on administrative applications on social welfare organisations or a project functioning for social welfare which is similar to an organisation.

Options :

1. ✔ Social work administration
2. ✖ Public administration
3. ✖ Social work application
4. ✖ Social projects

Question Number : 151 Question Id : 54592740957 Question Type : MCQ Option Shuffling : Yes  
Correct Marks : 1 Wrong Marks : 0.25

\_\_\_\_\_ ने समाज कल्याण संगठनों पर प्रशासनिक अनुप्रयोगों या समाज कल्याण परियोजना, जो किसी संगठन के लिए एक समान होती हैं, के बारे में जानकारीयां प्रदान की।

Options :

1. ✔ सामाजिक कार्य प्रशासन
2. ✖ सार्वजनिक प्रशासन
3. ✖ सामाजिक कार्य अनुप्रयोग
4. ✖ सामाजिक परियोजनाओं

Question Number : 152 Question Id : 54592740958 Question Type : MCQ Option Shuffling : Yes  
Correct Marks : 1 Wrong Marks : 0.25



Who has defined social work administration as “Administration of social agencies translates the provisions of social legislation and the aims of private philanthropy and religious charities into the dynamics of services and benefits of humanity”?

Options :

1. \* Leopard Maya
2. \* Arlien Johnson
3. ✓ Friedlander
4. \* Stein

Question Number : 152 Question Id : 54592740958 Question Type : MCQ Option Shuffling : Yes

Correct Marks : 1 Wrong Marks : 0.25

सामाजिक कार्य प्रशासन की निम्न परिभाषा किसने दी "सामाजिक संस्थाओं का प्रशासन सामाजिक कानून के प्रावधानों का पालन सुनिश्चित करता है और प्राप्त निजी परोपकार और धार्मिक दान को मानवता के लाभ के लिए और सेवाएं प्रदान करने के लिए लगाने के उद्देश्य से काम करता है"?

Options :

1. \* लेपर्ड माया
2. \* अर्ली जॉनसन
3. ✓ फ्रीडलैंडर
4. \* स्टीन

Question Number : 153 Question Id : 54592740959 Question Type : MCQ Option Shuffling : Yes

Correct Marks : 1 Wrong Marks : 0.25

Which among the following is NOT covered under objectives of social welfare programmes?

Options :

1. \* Alleviation of poverty and generating employment

2. \* Fighting against the discrimination on the basis of gender, race, religion, age or disability

3. ✓ Empowering economic stature of the country

4. \* Protection of disadvantages people and sections

Question Number : 153 Question Id : 54592740959 Question Type : MCQ Option Shuffling : Yes

Correct Marks : 1 Wrong Marks : 0.25

निम्नलिखित में से किसे समाज कल्याण कार्यक्रमों के उद्देश्यों के तहत शामिल नहीं किया जाता है?

Options :

1. \* गरीबी हटाना और रोजगार पैदा करना

2. \* लिंग, जाति, धर्म, उम्र या विकलांगता के आधार पर हो रहे भेदभाव के खिलाफ लड़ना

3. ✓ देश का आर्थिक कद बढ़ाना

4. \* पिछड़े लोगों और वर्गों को संरक्षण देना

Question Number : 154 Question Id : 54592740960 Question Type : MCQ Option Shuffling : Yes

Correct Marks : 1 Wrong Marks : 0.25

Presently the Government of India has introduced \_\_\_\_\_ for speedy administration in state level and central level social welfare policies / programmes.

Options :

1. ✓ Niti Aayog

2. \* RBI

3. \* NGOs

4. \* Banks

Question Number : 154 Question Id : 54592740960 Question Type : MCQ Option Shuffling : Yes

Correct Marks : 1 Wrong Marks : 0.25

वर्तमान में भारत सरकार ने राज्य और केंद्रीय स्तर की समाज कल्याण नीतियों / कार्यक्रमों के त्वरित संचालन के लिए \_\_\_\_\_ की शुरुआत की है।

Options :

1. ✓ नीति आयोग
2. ✖ भारतीय रिजर्व बैंक (RBI)
3. ✖ गैर सरकारी संगठनों (NGOs)
4. ✖ बैंकों

Question Number : 155 Question Id : 54592740961 Question Type : MCQ Option Shuffling : Yes

Correct Marks : 1 Wrong Marks : 0.25

According to Hooyman and Kiyak, there are four dimensions of ageing. Which among the following is NOT one of four?

Options :

1. ✖ Chronological ageing
2. ✖ Biological ageing
3. ✖ Psychological ageing
4. ✓ Economical ageing

Question Number : 155 Question Id : 54592740961 Question Type : MCQ Option Shuffling : Yes

Correct Marks : 1 Wrong Marks : 0.25

होयमैन और कियक के अनुसार, बुढ़ापे के चार आयाम होते हैं।

निम्नलिखित में से कौन सा विकल्प इन चार आयामों में शामिल नहीं है?

Options :

1. ✖ कालानुक्रमिक बुढ़ापा
2. ✖ जैविक बुढ़ापा
3. ✖ मनोवैज्ञानिक बुढ़ापा

## 4. ✓ आर्थिक बुढ़ापा

Question Number : 156 Question Id : 54592740962 Question Type : MCQ Option Shuffling : Yes  
Correct Marks : 1 Wrong Marks : 0.25

Gerontology is derived from Greek words — ‘Geron’ which means:

Options :

1. \* young Man
2. ✓ old Man
3. \* play age
4. \* school age

Question Number : 156 Question Id : 54592740962 Question Type : MCQ Option Shuffling : Yes  
Correct Marks : 1 Wrong Marks : 0.25

जेरोन्टोलॉजी शब्द की उत्पत्ति यूनानी शब्द - 'जीरोन' से हुई है, जिसका अर्थ होता है:

Options :

1. \* नव युवक
2. ✓ बूढ़ा आदमी
3. \* खेलने की उम्र
4. \* स्कूल जाने की उम्र

Question Number : 157 Question Id : 54592740963 Question Type : MCQ Option Shuffling : Yes  
Correct Marks : 1 Wrong Marks : 0.25

\_\_\_\_\_ is the scientific investigation of how the thoughts, feelings and behaviour of individuals are influenced by the actual, imagined or implied presence of others.

Options :

1. ✓ Social Psychology
2. \* Applied Psychometry

### 3. \* Cognitive Psychology

### 4. \* Social Anthropology

Question Number : 157 Question Id : 54592740963 Question Type : MCQ Option Shuffling : Yes

Correct Marks : 1 Wrong Marks : 0.25

\_\_\_\_\_ इस बात की एक वैज्ञानिक जांच है कि, लोगों के विचार, भावनाएं और व्यवहार दूसरों की वास्तविक, काल्पनिक या निहित उपस्थिति से किस प्रकार से प्रभावित होते हैं।

Options :

1. ✓ सामाजिक मनोविज्ञान
2. \* अनुप्रयुक्त साइकोमेट्री
3. \* संज्ञानात्मक मनोविज्ञान
4. \* सामाजिक मानविकी

Question Number : 158 Question Id : 54592740964 Question Type : MCQ Option Shuffling : Yes

Correct Marks : 1 Wrong Marks : 0.25

Which of the following is NOT one of the ABCs of social psychology?

Options :

1. \* Affect
2. \* Behaviour
3. ✓ Communication
4. \* Cognition

Question Number : 158 Question Id : 54592740964 Question Type : MCQ Option Shuffling : Yes

Correct Marks : 1 Wrong Marks : 0.25

सामाजिक मनोविज्ञान की ABCs में शामिल नहीं है?

Options :

1. \* अफ़ेक्ट या प्रभाव
2. \* बिहेवियर या व्यवहार

3. ✓ कम्युनिकेशन या संचार

4. ✘ कोग्निशन या अनुभूति

Question Number : 159 Question Id : 54592740965 Question Type : MCQ Option Shuffling : Yes

Correct Marks : 1 Wrong Marks : 0.25

In-group bias is the tendency to:

Options :

1. ✘ perform better in a specific group

2. ✘ perform poorly in a specific group

3. ✘ judge one's own group more critically than others

4. ✓ favour one's own group above that of others

Question Number : 159 Question Id : 54592740965 Question Type : MCQ Option Shuffling : Yes

Correct Marks : 1 Wrong Marks : 0.25

समूह में पैदा होने वाले (इन-ग्रुप) पूर्वाग्रह की प्रवृत्ति होती है:

Options :

1. ✘ विशिष्ट समूह में बेहतर प्रदर्शन करते हैं

2. ✘ एक विशिष्ट समूह में खराब प्रदर्शन करते हैं

3. ✘ अपने समूह को दूसरों की तुलना में अधिक आलोचनात्मक तरीके से आंकते हैं

4. ✓ दूसरे समूहों की बजाय अपने समूह का पक्ष लेते हैं

Question Number : 160 Question Id : 54592740966 Question Type : MCQ Option Shuffling : Yes

Correct Marks : 1 Wrong Marks : 0.25

The concept of 'diffusion of responsibility' was first proposed by:

Options :

1. ✘ Lamm & Myers

2. ✓ Darley & Latané

3. ✘ Zimbardo

## 4. \* Fleishman

Question Number : 160 Question Id : 54592740966 Question Type : MCQ Option Shuffling : Yes  
Correct Marks : 1 Wrong Marks : 0.25

'जिम्मेदारी का प्रसार' की अवधारणा सबसे पहले निम्न के द्वारा प्रस्तावित की गई थी:

Options :

1. \* लम और मायर्स
2. ✓ डार्ले और लाटेन
3. \* जिम्बार्डो
4. \* फलीशमैन

## Discipline4

Group Number :	9
Group Id :	5459272029
Group Maximum Duration :	0
Group Minimum Duration :	0
Show Attended Group? :	No
Edit Attended Group? :	No
Break time:	0
Group Marks:	20
Is this Group for Examiner? :	No
Revisit allowed for group Instructions? :	Yes
Maximum Instruction Time:	0
Minimum Instruction Time:	0

## Discipline4

Section Id :	5459272029
Section Number :	1
Section type :	Online
Mandatory or Optional:	Mandatory
Number of Questions:	20
Number of Questions to be attempted:	20
Section Marks:	20

Sub-Section Number:	1
Sub-Section Id:	5459272435

Question Number : 161 Question Id : 54592740967 Question Type : MCQ Option Shuffling : Yes

Correct Marks : 1 Wrong Marks : 0.25

Rahul is a shy boy and generally keeps to himself, but at his farewell party he sings and dances crazily and leaves everyone surprised. The behaviour displayed by Rahul is an example of:

Options :

1. ✓ deindividuation
2. ✗ cognitive dissonance
3. ✗ bystander effect
4. ✗ ethnocentrism

Question Number : 161 Question Id : 54592740967 Question Type : MCQ Option Shuffling : Yes

Correct Marks : 1 Wrong Marks : 0.25

राहुल एक शर्मीला लड़का है और आम तौर पर लोगों से कम मिलता जुलता है, लेकिन अपनी विदाई पार्टी में नाचकर और गाकर सबको आश्चर्यचकित कर देता है। राहुल द्वारा प्रदर्शित व्यवहार निम्न का एक उदाहरण है :

Options :

1. ✓ डी-इन्डिविज्युलाइजेशन
2. ✗ संज्ञानात्मक मतभेद
3. ✗ दर्शक प्रभाव
4. ✗ प्रजाति केंद्रिकता

Question Number : 162 Question Id : 54592740968 Question Type : MCQ Option Shuffling : Yes

Correct Marks : 1 Wrong Marks : 0.25

Which of the following is NOT a cognitive behavioral therapy technique?

Options :

1. ✗ Behavioral experiments



2. ✓ Surveys

3. ✖ Thought records

4. ✖ Imagery based exposure

Question Number : 162 Question Id : 54592740968 Question Type : MCQ Option Shuffling : Yes  
Correct Marks : 1 Wrong Marks : 0.25

निम्नलिखित में से कौन सी एक संज्ञानात्मक व्यवहार थेरेपी तकनीक नहीं है?

Options :

1. ✖ व्यवहारिक प्रयोग

2. ✓ सर्वेक्षण

3. ✖ सोच के अभिलेख

4. ✖ कल्पना आधारित अनावृत्ति

Question Number : 163 Question Id : 54592740969 Question Type : MCQ Option Shuffling : Yes  
Correct Marks : 1 Wrong Marks : 0.25

REBT (Rational emotive behavioral therapy) was developed by:

Options :

1. ✓ Albert Ellis

2. ✖ Charles Lazarus

3. ✖ Robert Beck

4. ✖ Lewis Zimbardo

Question Number : 163 Question Id : 54592740969 Question Type : MCQ Option Shuffling : Yes  
Correct Marks : 1 Wrong Marks : 0.25

REBT (रेशनल इमोशनल बिहेवियरल थेरेपी) किसके द्वारा विकसित की गई थी:

Options :

1. ✓ अल्बर्ट एलिस

2. \* चार्ल्स लाजर
3. \* रॉबर्ट बेक
4. \* लुईस जोम्बार्डो

Question Number : 164 Question Id : 54592740970 Question Type : MCQ Option Shuffling : Yes  
Correct Marks : 1 Wrong Marks : 0.25

“A single or repeated act or lack of appropriate action occurring within any relationship where there is an expectation of trust, which causes harm or distress to an older person” is the WHO definition of:

Options :

1. \* gerontology
2. ✓ elderly abuse
3. \* sociology of ageing
4. \* gender abuse

Question Number : 164 Question Id : 54592740970 Question Type : MCQ Option Shuffling : Yes  
Correct Marks : 1 Wrong Marks : 0.25

"किसी भी रिश्ते में बार-बार दोहराया जाने वाला कोई काम या प्रतिक्रिया की कमी, जहां विश्वास की उम्मीद होती है, और जिससे बुजुर्ग व्यक्ति को परेशानी या नुकसान हो सकता है" यह निम्न में से किसकी WHO द्वारा दी गई परिभाषा है:

Options :

1. \* वृद्धावस्था
2. ✓ बुजुर्गों से दुर्व्यवहार
3. \* वृद्धावस्था का समाजशास्त्र
4. \* लैंगिक दुर्व्यवहार

Question Number : 165 Question Id : 54592740971 Question Type : MCQ Option Shuffling : Yes  
Correct Marks : 1 Wrong Marks : 0.25

The deliberate destruction of older community members is called:

Options :

1. \* homicide
2. ✓ senicide
3. \* euthanasia
4. \* suicide

Question Number : 165 Question Id : 54592740971 Question Type : MCQ Option Shuffling : Yes

Correct Marks : 1 Wrong Marks : 0.25

समुदाय के वृद्ध सदस्यों को जानबूझकर मरने के लिए छोड़ देने की प्रथा को इस नाम से भी जाना जाता है:

Options :

1. \* होमीसाइड
2. ✓ सेनीसाइड
3. \* इच्छामृत्यु या यूथेन्सिया
4. \* आत्महत्या

Question Number : 166 Question Id : 54592740972 Question Type : MCQ Option Shuffling : Yes

Correct Marks : 1 Wrong Marks : 0.25

Which among the following is NOT a model of social policy?

Options :

1. \* The Residual Welfare Model of Social Policy
2. \* The Industrial Achievement-Performance Model of Social Policy
3. \* The Institutional Redistributive Model of Social Policy
4. ✓ The economic Welfare Model of Social Policy

Question Number : 166 Question Id : 54592740972 Question Type : MCQ Option Shuffling : Yes

Correct Marks : 1 Wrong Marks : 0.25

निम्नलिखित में से कौन सा सामाजिक नीति का एक प्रतिरूप नहीं है?

Options :

1. \* सामाजिक नीति का अवशिष्ट कल्याण प्रतिरूप
2. \* सामाजिक नीति का औद्योगिक उपलब्धि-प्रदर्शन प्रतिरूप
3. \* सामाजिक नीति का संस्थागत पुनर्वितरण प्रतिरूप
4. ✓ सामाजिक नीति का आर्थिक कल्याण प्रतिरूप

Question Number : 167 Question Id : 54592740973 Question Type : MCQ Option Shuffling : Yes

Correct Marks : 1 Wrong Marks : 0.25

Who has described three main types of welfare régime / policy?

Options :

1. \* Radcliffe-Brown
2. ✓ Espying-Andersen
3. \* Friedman
4. \* Hayek

Question Number : 167 Question Id : 54592740973 Question Type : MCQ Option Shuffling : Yes

Correct Marks : 1 Wrong Marks : 0.25

तीन मुख्य प्रकार के कल्याणकारी नियमों / नीतियों का वर्णन किसने किया?

Options :

1. \* रेडक्लिफ-ब्राउन
2. ✓ स्पाइंग-एंडरसन
3. \* फ्रीडमैन
4. \* हायेक

Question Number : 168 Question Id : 54592740974 Question Type : MCQ Option Shuffling : Yes

Correct Marks : 1 Wrong Marks : 0.25

\_\_\_\_\_ laid down in the Indian Constitution state that "the State shall strive to promote the welfare of the people by securing and promoting as effectively as it may a social order in which justice; social, economic and political shall inform all the institutions of the national life."

Options :

1. ✓ The Directive Principles of State Policy
2. ✖ Fundamental Rights
3. ✖ Preamble
4. ✖ Fundamental Duties

Question Number : 168 Question Id : 54592740974 Question Type : MCQ Option Shuffling : Yes

Correct Marks : 1 Wrong Marks : 0.25

भारतीय संविधान की/के \_\_\_\_\_ में कहा गया है कि "राज्य लोगों के कल्याण के लिए ऐसी सामाजिक व्यवस्था का निर्माण करने और उसे सुरक्षित रखने का प्रयत्न करेगा, जिसके अंतर्गत राष्ट्रीय जीवन की सभी संस्थाओं में लोगों को सामाजिक, आर्थिक और राजनीतिक न्याय प्राप्त हो।"

Options :

1. ✓ राज्य नीति के निर्देशक सिद्धांत
2. ✖ मौलिक अधिकार
3. ✖ प्रस्तावना
4. ✖ मौलिक कर्तव्य

Question Number : 169 Question Id : 54592740975 Question Type : MCQ Option Shuffling : Yes

Correct Marks : 1 Wrong Marks : 0.25

\_\_\_\_\_ makes social order to disorders facts, system & choices for economic and social life.

Options :

1. ✖ Social policy

2. ✖ Social planning

3. ✔ Social model

4. ✖ Social work

Question Number : 169 Question Id : 54592740975 Question Type : MCQ Option Shuffling : Yes  
Correct Marks : 1 Wrong Marks : 0.25

\_\_\_\_\_ , आर्थिक और सामाजिक जीवन के लिए अव्यवस्थित तथ्यों, प्रणाली और विकल्पों के लिए सामाजिक व्यवस्था बनाता है।

Options :

1. ✖ सामाजिक नीति

2. ✖ सामाजिक नियोजन

3. ✔ सामाजिक प्रतिरूप

4. ✖ सामाजिक कार्य

Question Number : 170 Question Id : 54592740976 Question Type : MCQ Option Shuffling : Yes  
Correct Marks : 1 Wrong Marks : 0.25

\_\_\_\_\_ model can be conceptualised as a pyramid in which the bottom of this hierarchy represents basic physiological or biological needs which are basic to survival such as hunger, thirst, etc.

Options :

1. ✔ Maslow's

2. ✖ Equity theory

3. ✖ ERG theory

4. ✖ Two factor theory

Question Number : 170 Question Id : 54592740976 Question Type : MCQ Option Shuffling : Yes  
Correct Marks : 1 Wrong Marks : 0.25

\_\_\_\_\_ प्रतिरूप को एक पिरामिड के रूप में परिकल्पित किया जा सकता है जिसमें इस पदानुक्रम का आधार बुनियादी शारीरिक या जैविक आवश्यकताओं, जो कि जीवित रहने के लिए आवश्यक हैं जैसे कि भूख, प्यास आदि को निरूपित करता है।

Options :

1. ✓ मस्लो का सिद्धांत
2. ✗ इक्विटी सिद्धांत
3. ✗ ईआरजी सिद्धांत
4. ✗ दो कारक सिद्धांत

Question Number : 171 Question Id : 54592740977 Question Type : MCQ Option Shuffling : Yes

Correct Marks : 1 Wrong Marks : 0.25

Focus on the innate, biological causes of motivation like hormones, neurotransmitters, brain structure (hypothalamus, limbic system, etc.). For example, hunger, thirst and sex motives - is the definition of:

Options :

1. ✗ psychosocial motives
2. ✓ biological motives
3. ✗ psychological motives
4. ✗ social motives

Question Number : 171 Question Id : 54592740977 Question Type : MCQ Option Shuffling : Yes

Correct Marks : 1 Wrong Marks : 0.25

प्रेरण के मूलभूत और जैविक कारणों जैसे कि हार्मोन, न्यूरोट्रांसमीटर, मस्तिष्क संरचना (हाइपोथैलेमस, लिम्बिक सिस्टम, आदि) उदाहरण के लिए, भूख, प्यास और सेक्स का कारण आदि पर ध्यान केन्द्रित करना निम्न की परिभाषा के अंतर्गत आता है:

Options :

1. ✖ मनोसामाजिक उद्देश्यों
2. ✔ जैविक उद्देश्यों
3. ✖ मनोवैज्ञानिक उद्देश्यों
4. ✖ सामाजिक उद्देश्यों

Question Number : 172 Question Id : 54592740978 Question Type : MCQ Option Shuffling : Yes  
Correct Marks : 1 Wrong Marks : 0.25

Which among the following is an example of psychosocial motives?

Options :

1. ✖ Thirst
2. ✖ Hunger
3. ✖ Sex motives
4. ✔ Curiosity and exploration

Question Number : 172 Question Id : 54592740978 Question Type : MCQ Option Shuffling : Yes  
Correct Marks : 1 Wrong Marks : 0.25

निम्नलिखित में से कौन सा मनोसामाजिक उद्देश्यों का एक उदाहरण है?

Options :

1. ✖ प्यास
2. ✖ भूख
3. ✖ सेक्स के कारण
4. ✔ जिज्ञासा और अन्वेषण

Question Number : 173 Question Id : 54592740979 Question Type : MCQ Option Shuffling : Yes  
Correct Marks : 1 Wrong Marks : 0.25

Which of the following steps is NOT associated with cognitive restructuring?

Options :

1. ✖ Making identification of your negative thoughts



2. ✖ Challenging the negative thoughts
3. ✔ Identifying positive thoughts and actions
4. ✖ Replace the negative thoughts with more realistic ones

Question Number : 173 Question Id : 54592740979 Question Type : MCQ Option Shuffling : Yes  
Correct Marks : 1 Wrong Marks : 0.25

निम्नलिखित में से कौन सा कदम संज्ञानात्मक पुनर्गठन से संबंधित नहीं है?

Options :

1. ✖ अपने नकारात्मक विचारों को पहचानना
2. ✖ नकारात्मक विचारों को चुनौती देना
3. ✔ सकारात्मक विचारों और कामों की पहचान करना
4. ✖ नकारात्मक विचारों की जगह अधिक वास्तविक विचार लाना

Question Number : 174 Question Id : 54592740980 Question Type : MCQ Option Shuffling : Yes  
Correct Marks : 1 Wrong Marks : 0.25

Which of the following is NOT an advantage of CBTs?

Options :

1. ✖ CBT is very instructive.
2. ✖ CBTs take shorter time compared to other therapies.
3. ✖ CBTs are more structured than other therapies.
4. ✔ CBT focuses more on feeling better instead of getting better.

Question Number : 174 Question Id : 54592740980 Question Type : MCQ Option Shuffling : Yes  
Correct Marks : 1 Wrong Marks : 0.25

निम्नलिखित में से कौन सा CBT का लाभ नहीं है?

Options :

1. ✖ CBT बोधप्रद होती है।
2. ✖ CBT अन्य उपचारों की तुलना में कम समय लेती है।

3. ✖ CBT अन्य उपचारों की तुलना में अधिक संरचित होती है।

4. ✔ CBT ठीक होने के बजाय ठीक महसूस करने पर अधिक ध्यान केंद्रित करती है।

Question Number : 175 Question Id : 54592740981 Question Type : MCQ Option Shuffling : Yes

Correct Marks : 1 Wrong Marks : 0.25

Which of the following is NOT a type of CBT?

Options :

1. ✔ Diabolic behaviour therapy

2. ✖ REBT

3. ✖ Family-focused therapy

4. ✖ Stress inoculation training

Question Number : 175 Question Id : 54592740981 Question Type : MCQ Option Shuffling : Yes

Correct Marks : 1 Wrong Marks : 0.25

निम्नलिखित में से कौन सा CBT का एक प्रकार नहीं है?

Options :

1. ✔ मधुमेह व्यवहार चिकित्सा

2. ✖ REBT

3. ✖ परिवार-केंद्रित थेरेपी

4. ✖ चिंता निवारण प्रशिक्षण

Question Number : 176 Question Id : 54592740982 Question Type : MCQ Option Shuffling : Yes

Correct Marks : 1 Wrong Marks : 0.25

Which of the following philosophers is associated with Nativism perspective of development?

Options :

1. ✔ Gottfried Leibniz

2. ✖ John Locke

3. ✖ George Berkeley

## 4. \* David Hume

Question Number : 176 Question Id : 54592740982 Question Type : MCQ Option Shuffling : Yes

Correct Marks : 1 Wrong Marks : 0.25

निम्नलिखित में से कौन सा दार्शनिक, विकास के सहज ज्ञानवाद दृष्टिकोण से संबंधित है?

Options :

1. ✓ गॉटफ्रीड लीबनिज
2. \* जॉन लॉक
3. \* जॉर्ज बर्कले
4. \* डेविड ह्यूम

Question Number : 177 Question Id : 54592740983 Question Type : MCQ Option Shuffling : Yes

Correct Marks : 1 Wrong Marks : 0.25

A branch of psychology that uses scientific understanding and effective intervention to aid in the achievement of a satisfactory life, rather than treating mental illness:

Options :

1. \* developmental psychology
2. \* social psychology
3. \* Indian psychology
4. ✓ positive psychology

Question Number : 177 Question Id : 54592740983 Question Type : MCQ Option Shuffling : Yes

Correct Marks : 1 Wrong Marks : 0.25

मनोविज्ञान की वह शाखा जो मानसिक बीमारी के इलाज के बजाय संतोषजनक जीवन बिताने में सहायता करने के लिए वैज्ञानिक समझ और प्रभावी हस्तक्षेप का उपयोग करती है, कहलाती है:

Options :

1. \* विकासमूलक मनोविज्ञान

2. \* सामाजिक मनोविज्ञान
3. \* भारतीय मनोविज्ञान
4. ✓ सकारात्मक मनोविज्ञान

Question Number : 178 Question Id : 54592740984 Question Type : MCQ Option Shuffling : Yes  
Correct Marks : 1 Wrong Marks : 0.25

Stanford Prison Experiment, where people played the role of a prison guard was setup by \_\_\_\_\_.

Options :

1. ✓ Philip Zimbardo
2. \* John Locke
3. \* Albert Ellis
4. \* Soloman Ache

Question Number : 178 Question Id : 54592740984 Question Type : MCQ Option Shuffling : Yes  
Correct Marks : 1 Wrong Marks : 0.25

स्टैनफोर्ड जेल प्रयोग, जिसमें शोध में भाग लेने वाले कुछ लोगों ने जेल प्रहरी की भूमिका निभाई थी, \_\_\_\_\_ द्वारा तैयार किया गया था।

Options :

1. ✓ फिलिप जिम्बार्डो
2. \* जॉन लॉक
3. \* अल्बर्ट एलिस
4. \* सोलोमन ऐश

Question Number : 179 Question Id : 54592740985 Question Type : MCQ Option Shuffling : Yes  
Correct Marks : 1 Wrong Marks : 0.25

Thinking that revolves around keeping harmony within a group through not disagreeing with group opinion/decision even if the decision is suboptimal, is known as \_\_\_\_\_.

Options :

1. ✓ groupthink

2. \* group bias

3. \* altruism

4. \* scapegoat theory

Question Number : 179 Question Id : 54592740985 Question Type : MCQ Option Shuffling : Yes

Correct Marks : 1 Wrong Marks : 0.25

किसी समूह के संयुक्त विचारों के साथ सामंजस्य बनाकर सोचने की प्रक्रिया, जिसमें समूह का निर्णय गलत होने पर भी व्यक्ति समूह के विचार / निर्णय से असहमत नहीं होता है, को \_\_\_\_\_ के नाम से जाना जाता है।

Options :

1. ✓ समूह सोच

2. \* समूह पूर्वाग्रह

3. \* अल्ट्रुइज्म

4. \* स्कैप-गोट सिद्धांत

Question Number : 180 Question Id : 54592740986 Question Type : MCQ Option Shuffling : Yes

Correct Marks : 1 Wrong Marks : 0.25

Which of the following is the correct example of social diversity?

Options :

1. \* Temperamental differences between men and women

2. \* Property differences between the two neighbours

3. ✓ Differences of religious belongingness between two groups

4. \* Ideological differences between two brothers

Question Number : 180 Question Id : 54592740986 Question Type : MCQ Option Shuffling : Yes

Correct Marks : 1 Wrong Marks : 0.25

सामाजिक विविधता का सही उदाहरण निम्न में से कौन सा है?

Options :

1. \* पुरुषों और महिलाओं के बीच मिजाज संबंधी मतभेद
2. \* दो पड़ोसियों के बीच संपत्ति को लेकर हुए मतभेद
3. ✓ दो समूहों के बीच धार्मिक मतभेद
4. \* दो भाइयों के बीच वैचारिक मतभेद

## Discipline5

Group Number :	10
Group Id :	5459272030
Group Maximum Duration :	0
Group Minimum Duration :	120
Show Attended Group? :	No
Edit Attended Group? :	No
Break time:	0
Group Marks:	20
Is this Group for Examiner? :	No
Revisit allowed for group Instructions? :	Yes
Maximum Instruction Time:	0
Minimum Instruction Time:	0

## Discipline5

Section Id :	5459272030
Section Number :	1
Section type :	Online
Mandatory or Optional:	Mandatory
Number of Questions:	20
Number of Questions to be attempted:	20
Section Marks:	20

Sub-Section Number:	1
Sub-Section Id:	5459272436
Question Shuffling Allowed :	Yes

Question Number : 181 Question Id : 54592740987 Question Type : MCQ Option Shuffling : Yes  
Correct Marks : 1 Wrong Marks : 0.25

Which among the following is the correct meaning of diversity?

Options :

1. \* Ideological differences between two individuals

2. ✓ Dissimilarities among groups

3. ✖ Similarities among the members of a group

4. ✖ Monetary differences between two individual

Question Number : 181 Question Id : 54592740987 Question Type : MCQ Option Shuffling : Yes

Correct Marks : 1 Wrong Marks : 0.25

निम्नलिखित में से विविधता का सही मतलब कौन सा है?

Options :

1. ✖ दो व्यक्तियों के बीच वैचारिक मतभेद

2. ✓ समूहों के बीच पाई जाने वाली विसंगतियां

3. ✖ किसी समूह के सदस्यों के बीच पाई जाने वाली समानताएं

4. ✖ दो व्यक्तियों के बीच का मौद्रिक अंतर

Question Number : 182 Question Id : 54592740988 Question Type : MCQ Option Shuffling : Yes

Correct Marks : 1 Wrong Marks : 0.25

Name the sociologist who classified the people of India into seven racial types -(i)Turko-Iranian (ii) Indo-Aryan (iii) Scytho-Dravidian (iv) Aryo-Dravidian, (v) Mongolo-Dravidian (vi) Mongoloid (vii) Dravidian

Options :

1. ✓ Herbert Risley

2. ✖ JH Hutton

3. ✖ DN Majumdar

4. ✖ BS Guha

Question Number : 182 Question Id : 54592740988 Question Type : MCQ Option Shuffling : Yes

Correct Marks : 1 Wrong Marks : 0.25

किस समाजशास्त्री ने भारत के लोगों को निम्न सात नस्लीय प्रकारों में वर्गीकृत किया था - (i) तुर्क-ईरानी (ii) इंडो-आर्यन (iii) स्किथो-द्रविड़ियन (iv) आर्यो-द्रविड़ियन (v) मंगोलो-द्रविड़ियन (vi) मंगोलॉयड (vii) द्रविड़ियन

Options :

1. ✓ हर्बर्ट रिस्ले
2. ✘ जेएच हटन
3. ✘ डीएन मजूमदार
4. ✘ बीएस गुहा

Question Number : 183 Question Id : 54592740989 Question Type : MCQ Option Shuffling : Yes  
Correct Marks : 1 Wrong Marks : 0.25

Polytheistic is characteristic of which religion in India?

Options :

1. ✓ Hinduism
2. ✘ Buddhism
3. ✘ Jainism
4. ✘ Christianity

Question Number : 183 Question Id : 54592740989 Question Type : MCQ Option Shuffling : Yes  
Correct Marks : 1 Wrong Marks : 0.25

बहुदेववाद, किस भारतीय धर्म की विशेषता है?

Options :

1. ✓ हिन्दू धर्म
2. ✘ बौद्ध धर्म
3. ✘ जैन धर्म
4. ✘ ईसाई धर्म

Question Number : 184 Question Id : 54592740990 Question Type : MCQ Option Shuffling : Yes  
Correct Marks : 1 Wrong Marks : 0.25



Broderick and Blewitt identified four categories of foundational social competencies. Which of the following is NOT one of them?

Options :

1. \* High social self-concept
2. \* Cognitive processes
3. ✓ Interactive processes
4. \* Affective processes

Question Number : 184 Question Id : 54592740990 Question Type : MCQ Option Shuffling : Yes

Correct Marks : 1 Wrong Marks : 0.25

ब्रोडरिक और ब्लेविट ने मूलभूत सामाजिक दक्षताओं को चार प्रमुख श्रेणियों में विभाजित किया था। निम्नलिखित में से कौन सी उक्त श्रेणी नहीं है?

Options :

1. \* उच्च सामाजिक आत्म-अवधारणा
2. \* संज्ञानात्मक प्रक्रिया
3. ✓ संवादात्मक प्रक्रिया
4. \* भावात्मक प्रक्रिया

Question Number : 185 Question Id : 54592740991 Question Type : MCQ Option Shuffling : Yes

Correct Marks : 1 Wrong Marks : 0.25

According to \_\_\_\_\_, an infant's attachment to a caregiver serves as the foundation for all future social development.

Options :

1. \* Ainsworth
2. ✓ Bowlby
3. \* Blehar
4. \* Waters

Question Number : 185 Question Id : 54592740991 Question Type : MCQ Option Shuffling : Yes  
Correct Marks : 1 Wrong Marks : 0.25

\_\_\_\_\_ के अनुसार, अपनी देखभाल करने वाले के लिए किसी शिशु का लगाव भविष्य के सभी सामाजिक विकासों की आधारशिला के रूप में कार्य करता है।

Options :

1. ✖ एन्सवर्थ
2. ✔ बोल्बी
3. ✖ ब्लेहर
4. ✖ वाटर्स

Question Number : 186 Question Id : 54592740992 Question Type : MCQ Option Shuffling : Yes  
Correct Marks : 1 Wrong Marks : 0.25

Learning can be correctly defined by the following attributes:

Options :

1. ✖ Imagination, understanding and realisation
2. ✖ Intuition, practice and experience
3. ✔ Belief, creativity and endurance
4. ✖ Intelligence, understanding and application

Question Number : 186 Question Id : 54592740992 Question Type : MCQ Option Shuffling : Yes  
Correct Marks : 1 Wrong Marks : 0.25

सीखने या अधिगम की प्रक्रिया को निम्न गुणों के द्वारा सही ढंग से परिभाषित किया जा सकता है:

Options :

1. ✖ कल्पना, समझ और बोध
2. ✖ अंतर्ज्ञान, अभ्यास और अनुभव
3. ✔ विश्वास, रचनात्मकता और धैर्य
4. ✖ बुद्धिमता, समझ और अनुप्रयोग

Question Number : 187 Question Id : 54592740993 Question Type : MCQ Option Shuffling : Yes  
Correct Marks : 1 Wrong Marks : 0.25

ECCE stands for:

Options :

1. \* Extra Care for Child Education
2. \* Enhanced Childhood Care and Education
3. \* Extended Curriculum for Child Education
4. ✓ Early Childhood Care and Education

Question Number : 187 Question Id : 54592740993 Question Type : MCQ Option Shuffling : Yes  
Correct Marks : 1 Wrong Marks : 0.25

ECCE का पूरा नाम है:

Options :

1. \* एक्स्ट्रा केयर फॉर चाइल्ड एजुकेशन
2. \* एन्हांस्ड चाइल्डहुड केयर एंड एजुकेशन
3. \* एक्स्टेंडेड करिकुलम फॉर चाइल्ड एजुकेशन
4. ✓ अर्ली चाइल्डहुड केयर एंड एजुकेशन

Question Number : 188 Question Id : 54592740994 Question Type : MCQ Option Shuffling : Yes  
Correct Marks : 1 Wrong Marks : 0.25

\_\_\_\_\_ are the steps that must be taken by administrative agencies.

Options :

1. ✓ Procedural policies
2. \* Functional policies
3. \* Material policies
4. \* Control policies

Question Number : 188 Question Id : 54592740994 Question Type : MCQ Option Shuffling : Yes  
Correct Marks : 1 Wrong Marks : 0.25

\_\_\_\_\_ प्रशासनिक संस्थाओं द्वारा उठाए जाने वाले कदम हैं।

Options :

1. ✓ प्रक्रियात्मक नीतियां
2. \* क्रियात्मक नीतियां
3. \* महत्त्वपूर्ण नीतियां
4. \* नियंत्रक नीतियां

Question Number : 189 Question Id : 54592740995 Question Type : MCQ Option Shuffling : Yes  
Correct Marks : 1 Wrong Marks : 0.25

The process of the brain hemispheres becoming specialised to carry out different functions is called \_\_\_\_\_.

Options :

1. \* localization
2. ✓ lateralization
3. \* fine motor skill development
4. \* gross motor skill development

Question Number : 189 Question Id : 54592740995 Question Type : MCQ Option Shuffling : Yes  
Correct Marks : 1 Wrong Marks : 0.25

मस्तिष्क के दोनों गोलार्द्ध अलग-अलग काम करने के लिए विशिष्ट रूप से अनुकूलित हो जाते हैं, जिसे \_\_\_\_\_ कहा जाता है।

Options :

1. \* स्थानीयकरण
2. ✓ पार्श्वीकरण
3. \* दक्ष मोटर कौशल विकास
4. \* सकल मोटर कौशल विकास

Question Number : 190 Question Id : 54592740996 Question Type : MCQ Option Shuffling : Yes  
Correct Marks : 1 Wrong Marks : 0.25

Most people have NO memories prior to the age of three, a phenomenon known as \_\_\_\_\_.

Options :

1. ✖ autobiographical memory

2. ✔ infantile amnesia

3. ✖ metacognition

4. ✖ overregularization

Question Number : 190 Question Id : 54592740996 Question Type : MCQ Option Shuffling : Yes

Correct Marks : 1 Wrong Marks : 0.25

अधिकांश लोगों को तीन वर्ष की आयु से पहले की कोई भी बात याद नहीं रहती है, इस परिघटना को \_\_\_\_\_ के नाम से जाना जाता है।

Options :

1. ✖ आत्मकथात्मक स्मृति

2. ✔ इन्फैंटाइल एम्नेसिया

3. ✖ मेटाकॉग्निशन

4. ✖ ओवररेगुलराइजेशन

Question Number : 191 Question Id : 54592740997 Question Type : MCQ Option Shuffling : Yes

Correct Marks : 1 Wrong Marks : 0.25

A person whose gender identity and gender expression align with sex assigned at birth:

Options :

1. ✖ genderqueer

2. ✖ pregender

3. ✔ cisgender

4. ✖ TGNC

Question Number : 191 Question Id : 54592740997 Question Type : MCQ Option Shuffling : Yes

Correct Marks : 1 Wrong Marks : 0.25

कोई व्यक्ति जिसका लिंग अभिज्ञान और लिंग की अभिव्यक्ति जन्म के समय निर्धारित लिंग के साथ संरेखित होती है, कहलाता है:

Options :

1. ✖ जेंडर-क्वीर
2. ✖ प्री-जेंडर
3. ✔ सिस-जेंडर
4. ✖ टी जी एन सी (TGNC)

Question Number : 192 Question Id : 54592740998 Question Type : MCQ Option Shuffling : Yes  
Correct Marks : 1 Wrong Marks : 0.25

\_\_\_\_\_ refers to discomfort or distress that is associated with a discrepancy between a person's gender identity and that person's sex assigned at birth.

Options :

1. ✔ Gender dysphoria
2. ✖ Gender assignment
3. ✖ Gender conflict
4. ✖ Gender concept

Question Number : 192 Question Id : 54592740998 Question Type : MCQ Option Shuffling : Yes  
Correct Marks : 1 Wrong Marks : 0.25

\_\_\_\_\_ उस असुविधा या परेशानी को निरूपित करता है जो किसी व्यक्ति के लिंग अभिज्ञान और जन्म के समय उस व्यक्ति के निर्धारित लिंग के बीच हुई विसंगति से जुड़ा होता है।

Options :

1. ✔ लिंग डिस्फोरिया
2. ✖ लिंग असाइनमेंट
3. ✖ लिंग संघर्ष
4. ✖ लिंग अवधारणा

Question Number : 193 Question Id : 54592740999 Question Type : MCQ Option Shuffling : Yes  
Correct Marks : 1 Wrong Marks : 0.25

One's sense of oneself as male, female or something else is referred as:

Options :

1. ✓ gender identity
2. ✗ gender assignment
3. ✗ CIS gender
4. ✗ gender concept

Question Number : 193 Question Id : 54592740999 Question Type : MCQ Option Shuffling : Yes

Correct Marks : 1 Wrong Marks : 0.25

किसी व्यक्ति का खुद को लैंगिक रूप से पुरुष, महिला या किसी अन्य रूप में पहचानना, इस नाम से जाना जाता है:

Options :

1. ✓ लिंग अभिज्ञान
2. ✗ लिंग असाइनमेंट
3. ✗ CIS लिंग
4. ✗ लिंग अवधारणा

Question Number : 194 Question Id : 54592741000 Question Type : MCQ Option Shuffling : Yes

Correct Marks : 1 Wrong Marks : 0.25

Person-centered theory was proposed by \_\_\_\_\_.

Options :

1. ✗ Abraham Maslow
2. ✓ Carl Rogers
3. ✗ Gustave Le Bon
4. ✗ Ralph Charell

Question Number : 194 Question Id : 54592741000 Question Type : MCQ Option Shuffling : Yes

Correct Marks : 1 Wrong Marks : 0.25

व्यक्ति-केंद्रित सिद्धांत \_\_\_\_\_ द्वारा प्रतिपादित किया गया था।

Options :

1. ✖ अब्राहम मेस्लो
2. ✔ कार्ल रोजर्स
3. ✖ गुस्ताव ले बॉन
4. ✖ राल्फ चरेल

Question Number : 195 Question Id : 54592741001 Question Type : MCQ Option Shuffling : Yes  
Correct Marks : 1 Wrong Marks : 0.25

As per Alder's personality theory, there are four different psychological types. Which of the following is NOT one of them?

Options :

1. ✔ Protecting type
2. ✖ Ruling type
3. ✖ Learning type
4. ✖ Avoiding type

Question Number : 195 Question Id : 54592741001 Question Type : MCQ Option Shuffling : Yes  
Correct Marks : 1 Wrong Marks : 0.25

एल्डर के व्यक्तित्व सिद्धांत के अनुसार, चार अलग-अलग मनोवैज्ञानिक प्रतिरूप होते हैं। निम्नलिखित में से कौन सा उनमें से एक नहीं है?

Options :

1. ✔ प्रोटेक्टिंग प्रकार
2. ✖ रूलिंग प्रकार
3. ✖ लर्निंग प्रकार
4. ✖ अवोइडिंग प्रकार

Question Number : 196 Question Id : 54592741002 Question Type : MCQ Option Shuffling : Yes  
Correct Marks : 1 Wrong Marks : 0.25



The three methods for developing a unidimensional scale: the method of equal-appearing intervals, the method of successive intervals and the method of paired comparisons are associated with \_\_\_\_\_.

Options :

1. ✖ Likert scaling
2. ✖ Guttman scaling
3. ✖ Semantic scaling
4. ✔ Thurstone scaling

Question Number : 196 Question Id : 54592741002 Question Type : MCQ Option Shuffling : Yes

Correct Marks : 1 Wrong Marks : 0.25

एक विमीय आयाम विकसित करने की तीन विधियां: समदृश्य अंतराल विधि, क्रमिक अंतराल विधि और युग्मित तुलना विधि \_\_\_\_\_ से जुड़ी हुई हैं।

Options :

1. ✖ परिमार्जन स्केलिंग
2. ✖ गुट्टमन स्केलिंग
3. ✖ सीमेन्टिक स्केलिंग
4. ✔ थस्टोन स्केलिंग

Question Number : 197 Question Id : 54592741003 Question Type : MCQ Option Shuffling : Yes

Correct Marks : 1 Wrong Marks : 0.25

\_\_\_\_\_ believed that human beings and other animals perceive the external world as an organised pattern, NOT as individual sensations.

Options :

1. ✔ Gestalt psychologists
2. ✖ Structuralism psychologists

3. \* Functionalism psychologists

4. \* Existentialism psychologists

Question Number : 197 Question Id : 54592741003 Question Type : MCQ Option Shuffling : Yes

Correct Marks : 1 Wrong Marks : 0.25

\_\_\_\_\_ का मानना था कि मनुष्य और अन्य जन्तु बाहरी दुनिया को एक संगठित पैटर्न के रूप में देखते हैं न कि व्यक्तिगत संवेदनाओं के रूप में।

Options :

1. ✓ गेस्टाल्ट मनोवैज्ञानिकों
2. \* संरचनावादी मनोवैज्ञानिकों
3. \* क्रियात्मकतावादी मनोवैज्ञानिकों
4. \* अस्तित्ववादी मनोवैज्ञानिकों

Question Number : 198 Question Id : 54592741004 Question Type : MCQ Option Shuffling : Yes

Correct Marks : 1 Wrong Marks : 0.25

The period of life immediately following the major changes of adolescence, usually ranging from the early twenties to the early thirties may be termed as \_\_\_\_\_.

Options :

1. ✓ Quarter-life crisis
2. \* Mid-life crisis
3. \* Juvenile delinquency
4. \* Behavioural Dilemma

Question Number : 198 Question Id : 54592741004 Question Type : MCQ Option Shuffling : Yes

Correct Marks : 1 Wrong Marks : 0.25

किशोरावस्था में होने वाले प्रमुख परिवर्तनों के तुरंत बाद का जीवनकाल, जो अक्सर जीवन के दूसरे दशक की शुरुआत से लेकर तीसरे दशक की शुरुआती वर्षों तक होता है, \_\_\_\_\_ के नाम से जाना जाता है।

Options :

1. ✓ क्वार्टर-लाइफ क्राइसिस
2. \* मिड लाइफ क्राइसिस
3. \* बाल अपराध
4. \* व्यवहार दुविधा काल

Question Number : 199 Question Id : 54592741005 Question Type : MCQ Option Shuffling : Yes  
Correct Marks : 1 Wrong Marks : 0.25

Which of the following is one of Rostow's Stages of economic growth?

- (i) The Traditional Society
- (ii) The Transitional Society
- (iii) The Ignition Stage
- (iv) The take-off stage

Options :

1. \* (i) & (ii) Only
2. \* (iii) & (iv) Only
3. ✓ (i), (ii) & (iv) Only
4. \* (i), (ii), (iii) & (iv)

Question Number : 199 Question Id : 54592741005 Question Type : MCQ Option Shuffling : Yes  
Correct Marks : 1 Wrong Marks : 0.25

आर्थिक विकास के रोस्टो के चरणों में निम्न में से कौन शामिल है?

- (i) पारंपरिक समाज
- (ii) संक्रमणकालीन समाज
- (iii) इग्निशन अवस्था
- (iv) टेक-ऑफ अवस्था

Options :

- 1. \* केवल (i) और (ii)
- 2. \* केवल (iii) और (iv)
- 3. ✓ केवल (i), (ii) और (iv)
- 4. \* (i), (ii), (iii) और (iv)

Question Number : 200 Question Id : 54592741006 Question Type : MCQ Option Shuffling : Yes  
Correct Marks : 1 Wrong Marks : 0.25

\_\_\_\_\_ is a process that results in the transformation of social structures to improve the capacity of a society in order to fulfill its objectives.

Options :

- 1. ✓ Social development
- 2. \* Economic development
- 3. \* Social stratification
- 4. \* Social justice

Question Number : 200 Question Id : 54592741006 Question Type : MCQ Option Shuffling : Yes  
Correct Marks : 1 Wrong Marks : 0.25

\_\_\_\_\_ एक ऐसी प्रक्रिया है जिसके परिणामस्वरूप, सामाजिक उद्देश्यों को पूरा करने के लिए समाज की क्षमता में सुधार के लिए सामाजिक संरचनाओं में परिवर्तन किया जाता है।

Options :

- 1. ✓ सामाजिक विकास

2. \* आर्थिक विकास
3. \* सामाजिक स्तरीकरण
4. \* सामाजिक न्याय