

Education Consultant India Ltd.

Notations :

1.Options shown in green color and with ✓ icon are correct.

2.Options shown in red color and with ✖ icon are incorrect.

Question Paper Name:	Grade IV DASS 30th September 2019 Shift 2
Subject Name:	Grade IV DASS
Creation Date:	2019-09-30 16:23:12
Duration:	120
Total Marks:	200
Display Marks:	Yes
Share Answer Key With Delivery Engine:	No
Actual Answer Key:	Yes
Calculator:	None
Magnifying Glass Required?:	No
Ruler Required?:	No
Eraser Required?:	No
Scratch Pad Required?:	No
Rough Sketch/Notepad Required?:	No
Protractor Required?:	No
Show Watermark on Console?:	Yes
Highlighter:	No
Auto Save on Console?:	No

Mental Ability1

Group Number :	1
Group Id :	5459272531
Group Maximum Duration :	0
Group Minimum Duration :	0
Show Attended Group? :	No
Edit Attended Group? :	No
Break time:	0
Group Marks:	20
Is this Group for Examiner?:	No
Revisit allowed for group Instructions? :	Yes
Maximum Instruction Time:	0
Minimum Instruction Time:	0

Mental Ability1

Section Id :	5459272531
Section Number :	1

Section type :	Online
Mandatory or Optional:	Mandatory
Number of Questions:	20
Number of Questions to be attempted:	20
Section Marks:	20

Sub-Section Number:	1
Sub-Section Id:	5459273037
Question Shuffling Allowed :	Yes

Question Number : 1 Question Id : 54592751107 Question Type : MCQ Option Shuffling : Yes
Correct Marks : 1 Wrong Marks : 0.25

A series is given with one term missing. Select the correct alternative from the given ones that will complete the series.

RK, SI, TG, ? , VC

Options :

1. ✓ UE
2. ✗ VE
3. ✗ UF
4. ✗ VN

Question Number : 1 Question Id : 54592751107 Question Type : MCQ Option Shuffling : Yes
Correct Marks : 1 Wrong Marks : 0.25

एक अनुक्रम दिया गया है, जिसमें से एक पद लुप्त है। दिए गए विकल्पों में से वह सही विकल्प चुनिए, जो अनुक्रम को पूरा करे।

RK, SI, TG, ? , VC

Options :

1. ✓ UE
2. ✗ VE
3. ✗ UF
4. ✗ VN

Question Number : 2 Question Id : 54592751108 Question Type : MCQ Option Shuffling : Yes

Correct Marks : 1 Wrong Marks : 0.25

A series is given with one term missing. Select the correct alternative from the given ones that will complete the series.

JR3, QK8, XD15, EW24 , ?

Options :

1. ✓ LP35
2. ✗ MQ35
3. ✗ LP37
4. ✗ MQ37

Question Number : 2 Question Id : 54592751108 Question Type : MCQ Option Shuffling : Yes

Correct Marks : 1 Wrong Marks : 0.25

एक अनुक्रम दिया गया है, जिसमें से एक पद लुप्त है। दिए गए विकल्पों में से वह सही विकल्प चुनिए, जो अनुक्रम को पूरा करे।

JR3, QK8, XD15, EW24 , ?

Options :

1. ✓ LP35
2. ✗ MQ35
3. ✗ LP37
4. ✗ MQ37

Question Number : 3 Question Id : 54592751109 Question Type : MCQ Option Shuffling : Yes

Correct Marks : 1 Wrong Marks : 0.25

A series is given with one term missing. Select the correct alternative from the given ones that will complete the series.

KTR49, MWV58, OZZ67, QCD24 , ?

Options :

1. ✓ SFH33
2. ✗ SGH33
3. ✗ SFH36
4. ✗ SHR36

Question Number : 3 Question Id : 54592751109 Question Type : MCQ Option Shuffling : Yes
Correct Marks : 1 Wrong Marks : 0.25

एक अनुक्रम दिया गया है, जिसमें से एक पद लुप्त है। दिए गए विकल्पों में से वह सही विकल्प चुनिए, जो अनुक्रम को पूरा करे।

KTR49, MWV58, OZZ67, QCD24 , ?

Options :

1. ✓ SFH33
2. ✗ SGH33
3. ✗ SFH36
4. ✗ SHR36

Question Number : 4 Question Id : 54592751110 Question Type : MCQ Option Shuffling : Yes
Correct Marks : 1 Wrong Marks : 0.25

In the following question, select the odd word from the given alternatives.

Options :

1. ✗ Axe
2. ✗ Knife
3. ✗ Saw
4. ✓ Tailor

Question Number : 4 Question Id : 54592751110 Question Type : MCQ Option Shuffling : Yes
Correct Marks : 1 Wrong Marks : 0.25

निम्नलिखित प्रश्न में दिए गए विकल्पों में से विषम शब्द को चुनिए।

Options :

1. ✖ कुल्हाड़ी
2. ✖ चाकू
3. ✖ आरी
4. ✔ दर्जी

Question Number : 5 Question Id : 54592751111 Question Type : MCQ Option Shuffling : Yes
Correct Marks : 1 Wrong Marks : 0.25

In the following question, select the odd letter/letters from the given alternatives.

Options :

1. ✖ CDHQ
2. ✖ KLPY
3. ✖ GHLU
4. ✔ EFJT

Question Number : 5 Question Id : 54592751111 Question Type : MCQ Option Shuffling : Yes
Correct Marks : 1 Wrong Marks : 0.25

निम्नलिखित प्रश्न में दिए गए विकल्पों में से विषम अक्षर/अक्षरों को चुनिए।

Options :

1. ✖ CDHQ
2. ✖ KLPY
3. ✖ GHLU
4. ✔ EFJT

Question Number : 6 Question Id : 54592751112 Question Type : MCQ Option Shuffling : Yes
Correct Marks : 1 Wrong Marks : 0.25

In the following question, select the odd letter/letters from the given alternatives.

Options :

1. ✖ WVPM
2. ✔ UTOK
3. ✖ QPJG
4. ✖ ONHE

Question Number : 6 Question Id : 54592751112 Question Type : MCQ Option Shuffling : Yes

Correct Marks : 1 Wrong Marks : 0.25

निम्नलिखित प्रश्न में दिए गए विकल्पों में से विषम अक्षर/अक्षरों को चुनिए।

Options :

1. ✖ WVPM
2. ✔ UTOK
3. ✖ QPJG
4. ✖ ONHE

Question Number : 7 Question Id : 54592751113 Question Type : MCQ Option Shuffling : Yes

Correct Marks : 1 Wrong Marks : 0.25

In the following question, select the related words from the given alternatives.

Chair : Carpenter :: Statue : ?

Options :

1. ✔ Sculptor
2. ✖ Painter
3. ✖ Teacher
4. ✖ Plumber

Question Number : 7 Question Id : 54592751113 Question Type : MCQ Option Shuffling : Yes
Correct Marks : 1 Wrong Marks : 0.25

निम्नलिखित प्रश्न में दिए गए विकल्पों में से संबंधित शब्दों को चुनिए।

कुर्सी : बढ़ई : मूर्ति : ?

Options :

1. ✓ मूर्तिकार
2. ✗ चित्रकार
3. ✗ अध्यापक
4. ✗ पलम्बर

Question Number : 8 Question Id : 54592751114 Question Type : MCQ Option Shuffling : Yes
Correct Marks : 1 Wrong Marks : 0.25

In the following question, select the related word pair from the given alternatives.

Reptile : Crocodile :: ?

Options :

1. ✗ Furniture : Wood
2. ✓ Gender : Female
3. ✗ Brother : Mother
4. ✗ Whale : Mammal

Question Number : 8 Question Id : 54592751114 Question Type : MCQ Option Shuffling : Yes
Correct Marks : 1 Wrong Marks : 0.25

निम्नलिखित प्रश्न में दिए गए विकल्पों में से संबंधित शब्द युग्म को चुनिए।

सरीसृप : मगरमच्छ :: ?

Options :

1. * फर्नीचर : लकडी

2. ✓ लिंग : महिला

3. * भाई : माता

4. * व्हेल : स्तनधारी

Question Number : 9 Question Id : 54592751115 Question Type : MCQ Option Shuffling : Yes

Correct Marks : 1 Wrong Marks : 0.25

In the following question, select the related word pair from the given alternatives.

Factory : Worker :: ?

Options :

1. * Umpire : Pitch

2. * Court : Tennis

3. * Hospital : Teacher

4. ✓ Site : Engineer

Question Number : 9 Question Id : 54592751115 Question Type : MCQ Option Shuffling : Yes

Correct Marks : 1 Wrong Marks : 0.25

निम्नलिखित प्रश्न में दिए गए विकल्पों में से संबंधित शब्द युग्म को चुनिए।

फैक्टरी : मजदूर :: ?

Options :

1. * अंपायर : पिच

2. * कोर्ट : टेनिस

3. * अस्पताल : अध्यापक

4. ✓ साईट : इंजीनियर

Question Number : 10 Question Id : 54592751116 Question Type : MCQ Option Shuffling : Yes
Correct Marks : 1 Wrong Marks : 0.25

In a certain code language, 'RANGE' is written as '95316', 'FAKE' is written as '4576', 'BIKE' is written as '8276'. What is the code for 'REGAB' in that code language?

Options :

1. ✓ 96158
2. ✗ 32157
3. ✗ 63152
4. ✗ 49618

Question Number : 10 Question Id : 54592751116 Question Type : MCQ Option Shuffling : Yes
Correct Marks : 1 Wrong Marks : 0.25

एक विशिष्ट कोड भाषा में, 'RANGE' को '95316' लिखा जाता है, 'FAKE' को '4576' लिखा जाता है, 'BIKE' को '8276' लिखा जाता है। इस कोड भाषा में 'REGAB' का कोड क्या है?

Options :

1. ✓ 96158
2. ✗ 32157
3. ✗ 63152
4. ✗ 49618

Question Number : 11 Question Id : 54592751117 Question Type : MCQ Option Shuffling : Yes
Correct Marks : 1 Wrong Marks : 0.25

In a certain code language, 'BAG' is called as 'CAR', 'CAR' is called as 'REFRIGERATOR', 'REFRIGERATOR' is called as 'LAND', 'LAND' is called as 'RENT', 'RENT' is called as 'BUILDER'. Where do we keep our water bottles?

Options :

1. ✓ Land
2. ✗ Rent

3. * Refrigerator

4. * Car

Question Number : 11 Question Id : 54592751117 Question Type : MCQ Option Shuffling : Yes

Correct Marks : 1 Wrong Marks : 0.25

एक विशिष्ट कोड भाषा में, 'थैला' को 'कार' कहा जाता है, 'कार' को 'रेफ्रिजरेटर' कहा जाता है, 'रेफ्रिजरेटर' को 'भूमि' कहा जाता है, 'भूमि' को 'किराया' कहा जाता है, 'किराया' को 'बिल्डर' कहा जाता है। हम अपनी पानी की बोतलों को कहाँ रखते हैं?

Options :

1. ✓ भूमि

2. * किराया

3. * रेफ्रिजरेटर

4. * कार

Question Number : 12 Question Id : 54592751118 Question Type : MCQ Option Shuffling : Yes

Correct Marks : 1 Wrong Marks : 0.25

In a certain code language, 'GUN' is called as 'BLADE', 'BLADE' is called as 'KEY', 'KEY' is called as 'GLASS', 'GLASS' is called as 'SPHERE', 'SPHERE' is called as 'BOOK'. What do we use to start a car?

Options :

1. ✓ Glass

2. * Key

3. * Gun

4. * Blade

Question Number : 12 Question Id : 54592751118 Question Type : MCQ Option Shuffling : Yes

Correct Marks : 1 Wrong Marks : 0.25

एक विशिष्ट कोड भाषा में, 'बंदूक' को 'ब्लेड' कहा जाता है, 'ब्लेड' को 'चाबी' कहा जाता है, 'चाबी' को 'ग्लास' कहा जाता है, 'ग्लास' को 'गोला' कहा जाता है, 'गोला' को 'पुस्तक' कहा जाता है। कार चालु करने के लिए हम किस चीज का उपयोग करते हैं?

Options :

1. ✓ ग्लास
2. ✗ चाबी
3. ✗ बंदूक
4. ✗ ब्लेड

Question Number : 13 Question Id : 54592751119 Question Type : MCQ Option Shuffling : Yes
Correct Marks : 1 Wrong Marks : 0.25

B1 is 4 years older to B2. B2 is 10 years younger to B3. B3 is 12 years older to B4. B4 is 8 years younger to B5. Who is the oldest among them?

Options :

1. ✗ B5
2. ✗ B1
3. ✓ B3
4. ✗ B2

Question Number : 13 Question Id : 54592751119 Question Type : MCQ Option Shuffling : Yes
Correct Marks : 1 Wrong Marks : 0.25

B1, B2 से 4 वर्ष बड़ा है। B2, B3 से 10 वर्ष छोटा है। B3, B4 से 12 वर्ष बड़ा है। B4, B5 से 8 वर्ष छोटा है। उनमें से सबसे बड़ा कौन है?

Options :

1. ✗ B5
2. ✗ B1

3. ✓ B3

4. ✗ B2

Question Number : 14 Question Id : 54592751120 Question Type : MCQ Option Shuffling : Yes

Correct Marks : 1 Wrong Marks : 0.25

Heights of five persons L1, L2, L3, L4 and L5 is compared. Height of L1 is twice of L2. Height of L2 is thrice of L3. Height of L3 is 4 times of L5. Height of L5 is half of L4. Who is the shortest among them?

Options :

1. ✗ L2

2. ✗ L3

3. ✓ L5

4. ✗ L4

Question Number : 14 Question Id : 54592751120 Question Type : MCQ Option Shuffling : Yes

Correct Marks : 1 Wrong Marks : 0.25

पांच व्यक्तियों L1, L2, L3, L4 तथा L5 की ऊँचाई की तुलना की गयी है। L1 की ऊँचाई L2 की दोगुनी है। L2 की ऊँचाई L3 की तीन गुना है। L3 की ऊँचाई L5 की 4 गुना है। L5 की ऊँचाई L4 की आधी है। उनमें से सबसे छोटा कौन है?

Options :

1. ✗ L2

2. ✗ L3

3. ✓ L5

4. ✗ L4

Question Number : 15 Question Id : 54592751121 Question Type : MCQ Option Shuffling : Yes

Correct Marks : 1 Wrong Marks : 0.25

Weight of J1 is more than J2. Weight of J4 is less than J5 but equal to J3. Weight of J6 is more than J1. Weight of J5 is less than J2. If the weight of J2 is 118 kg, then what can be the sum of the weights of J3 and J2?

Options :

1. ✖ 236 kg
2. ✖ 238 kg
3. ✔ 228 kg
4. ✖ 240 kg

Question Number : 15 Question Id : 54592751121 Question Type : MCQ Option Shuffling : Yes

Correct Marks : 1 Wrong Marks : 0.25

J1 का वजन J2 से अधिक है। J4 का वजन J5 से कम है परंतु J3 के बराबर है। J6 का वजन J1 से अधिक है। J5 का वजन J2 से कम है। यदि J2 का वजन 118 कि.ग्रा. है, तो J3 तथा J2 के वजन का योग क्या हो सकता है?

Options :

1. ✖ 236 कि.ग्रा.
2. ✖ 238 कि.ग्रा.
3. ✔ 228 कि.ग्रा.
4. ✖ 240 कि.ग्रा.

Question Number : 16 Question Id : 54592751122 Question Type : MCQ Option Shuffling : Yes

Correct Marks : 1 Wrong Marks : 0.25

Seven boys A, B, C, D, E, F and G are arranged in ascending order according to their age from left to right (not necessarily in the same order). G's age is minimum. Age of A is more than only four boys. Age of E is less than F but more than A. If the age of C is more than only two boys, then in how many ways we can arrange them according to their age in descending order from left to right?

Options :

1. ✖ 3
2. ✖ 1
3. ✖ 4
4. ✔ 2

Question Number : 16 Question Id : 54592751122 Question Type : MCQ Option Shuffling : Yes
Correct Marks : 1 Wrong Marks : 0.25

सात लड़को A, B, C, D, E, F तथा G को उनकी आयु के अनुसार बायें से दायें की ओर बढ़ते क्रम में व्यवस्थित किया गया है (जरूरी नहीं की इसी क्रम में हो)। G की आयु न्यूनतम है। A की आयु केवल चार लड़को से अधिक है। E की आयु F से कम परंतु A से अधिक है। यदि C की आयु केवल दो लड़को से अधिक है, तो हम उन्हें उनकी आयु के अनुसार घटते क्रम में बायें से दायें की ओर कितने तरीकों से व्यवस्थित कर सकते हैं?

Options :

1. ✖ 3
2. ✖ 1
3. ✖ 4
4. ✔ 2

Question Number : 17 Question Id : 54592751123 Question Type : MCQ Option Shuffling : Yes

Correct Marks : 1 Wrong Marks : 0.25

Weights of seven persons Y1, Y2, Y3, Y4, Y5, Y6 and Y7 are compared. Weight of Y6 is more than Y4 but less than Y1. Weight of Y5 is less than Y1. Weight of Y2 is minimum. Weight of Y3 is more than Y4 but less than Y6. Y5 and Y7 have equal weight. If Weight of Y7 is not less than Y6, then Weight of Y6 is less than how many persons?

Options :

1. ✓ 3

2. ✗ 2

3. ✗ 4

4. ✗ 1

Question Number : 17 Question Id : 54592751123 Question Type : MCQ Option Shuffling : Yes

Correct Marks : 1 Wrong Marks : 0.25

सात व्यक्तियों Y1, Y2, Y3, Y4, Y5, Y6 तथा Y7 के वजन की तुलना की गयी है। Y6 का वजन Y4 से अधिक है परंतु Y1 से कम है। Y5 का वजन Y1 से कम है। Y2 का वजन न्यूनतम है। Y3 का वजन Y4 से अधिक है परंतु Y6 से कम है। Y5 तथा Y7 का वजन बराबर है। यदि Y7 का वजन Y6 से कम नहीं है, तो Y6 का वजन कितने व्यक्तियों से कम है?

Options :

1. ✓ 3

2. ✗ 2

3. ✗ 4

4. ✗ 1

Question Number : 18 Question Id : 54592751124 Question Type : MCQ Option Shuffling : Yes

Correct Marks : 1 Wrong Marks : 0.25

In the following question below are given some statements followed by some conclusions based on those statements. Taking the given statements to be true even if they seem to be at variance from commonly known facts. Read all the conclusions and then decide which of the given conclusion logically follows the given statements.

Statements:

I. No L is J.

II. No J is P.

Conclusions:

I. Some L are J.

II. Some P are L.

III. Some L are P.

Options :

1. ✖ Only conclusion I follows

2. ✖ Only conclusion II follows

3. ✖ Only conclusion III follows

4. ✔ Neither conclusion follow

Question Number : 18 Question Id : 54592751124 Question Type : MCQ Option Shuffling : Yes

Correct Marks : 1 Wrong Marks : 0.25

नीचे दिए गए प्रश्न में कुछ कथन और उनके बाद उन कथनों पर आधारित कुछ निष्कर्ष दिए गए हैं। दिए गए कथनों को सही माने, चाहे उनमें सामान्य ज्ञात तथ्यों से भिन्नता हो। सभी निष्कर्ष पढ़ें और फिर निर्धारित करें कि दिए गए कौन से निष्कर्ष, दिए गए कथनों के आधार पर युक्तिसंगत हैं।

कथन:

- I. कोई L, J नहीं है।
- II. कोई J, P नहीं है।

निष्कर्ष:

- I. कुछ L, J हैं।
- II. कुछ P, L हैं।
- III. कुछ L, P हैं।

Options :

1. * केवल निष्कर्ष I अनुसरण करता है
2. * केवल निष्कर्ष II अनुसरण करता है
3. * केवल निष्कर्ष III अनुसरण करता है
4. ✓ कोई भी निष्कर्ष अनुसरण नहीं करता है

Question Number : 19 Question Id : 54592751125 Question Type : MCQ Option Shuffling : Yes
Correct Marks : 1 Wrong Marks : 0.25

In the following question below are given some statements followed by some conclusions based on those statements. Taking the given statements to be true even if they seem to be at variance from commonly known facts. Read all the conclusions and then decide which of the given conclusion logically follows the given statements.

Statements:

- I. All cup are plate.
- II. No cup is spoon.

Conclusions:

- I. Some Plate are spoon.
- II. Some spoon are plate.
- III. All spoon are plate.

Options :

1. ✖ Only conclusion I follows
2. ✖ Only conclusion II follows
3. ✖ Only conclusion III follows
4. ✔ Neither conclusion follow

Question Number : 19 Question Id : 54592751125 Question Type : MCQ Option Shuffling : Yes
Correct Marks : 1 Wrong Marks : 0.25

नीचे दिए गए प्रश्न में कुछ कथन और उनके बाद उन कथनों पर आधारित कुछ निष्कर्ष दिए गए हैं। दिए गए कथनों को सही माने, चाहे उनमें सामान्य ज्ञात तथ्यों से भिन्नता हो। सभी निष्कर्ष पढ़ें और फिर निर्धारित करें कि दिए गए कौन से निष्कर्ष, दिए गए कथनों के आधार पर युक्तिसंगत हैं।

कथन:

- I. सभी कप, प्लेट हैं।
- II. कोई कप, चम्मच नहीं है।

निष्कर्ष:

- I. कुछ प्लेट, चम्मच हैं।
- II. कुछ चम्मच, प्लेट हैं।
- III. सभी चम्मच, प्लेट हैं।

Options :

1. * केवल निष्कर्ष I अनुसरण करता है
2. * केवल निष्कर्ष II अनुसरण करता है
3. * केवल निष्कर्ष III अनुसरण करता है
4. ✓ कोई भी निष्कर्ष अनुसरण नहीं करता है

Question Number : 20 Question Id : 54592751126 Question Type : MCQ Option Shuffling : Yes

Correct Marks : 1 Wrong Marks : 0.25

In the following question, select the missing number from the given series.

50, 149, 445, 1332, 3992, ?

Options :

1. ✖ 8621
2. ✖ 10301
3. ✖ 9872
4. ✔ 11971

Question Number : 20 Question Id : 54592751126 Question Type : MCQ Option Shuffling : Yes
Correct Marks : 1 Wrong Marks : 0.25

निम्नलिखित प्रश्न में दी गई श्रृंखला में से लुप्त अंक ज्ञात कीजिए।

50, 149, 445, 1332, 3992, ?

Options :

1. ✖ 8621
2. ✖ 10301
3. ✖ 9872
4. ✔ 11971

Mental Ability2

Group Number :	2
Group Id :	5459272532
Group Maximum Duration :	0
Group Minimum Duration :	0
Show Attended Group? :	No
Edit Attended Group? :	No
Break time:	0
Group Marks:	20
Is this Group for Examiner?:	No
Revisit allowed for group Instructions? :	Yes
Maximum Instruction Time:	0
Minimum Instruction Time:	0

Mental Ability2

Section Id :	5459272532
Section Number :	1
Section type :	Online

Mandatory or Optional:	Mandatory
Number of Questions:	20
Number of Questions to be attempted:	20
Section Marks:	20

Sub-Section Number:	1
Sub-Section Id:	5459273038
Question Shuffling Allowed :	Yes

Question Number : 21 Question Id : 54592751127 Question Type : MCQ Option Shuffling : Yes
Correct Marks : 1 Wrong Marks : 0.25

In the following question, select the missing number from the given series.

15, 31, 61, 123, 245, ?

Options :

1. ✖ 105
2. ✖ 208
3. ✔ 491
4. ✖ 325

Question Number : 21 Question Id : 54592751127 Question Type : MCQ Option Shuffling : Yes
Correct Marks : 1 Wrong Marks : 0.25

निम्नलिखित प्रश्न में दी गई श्रृंखला में से लुप्त अंक ज्ञात कीजिए।

15, 31, 61, 123, 245, ?

Options :

1. ✖ 105
2. ✖ 208
3. ✔ 491
4. ✖ 325

Question Number : 22 Question Id : 54592751128 Question Type : MCQ Option Shuffling : Yes
Correct Marks : 1 Wrong Marks : 0.25

A series is given with one term wrong. Select that wrong term from the given alternatives.

19, 21, 24, 26, 29, 31, 33, 37

Options :

1. ✓ 33

2. ✗ 37

3. ✗ 31

4. ✗ 29

Question Number : 22 Question Id : 54592751128 Question Type : MCQ Option Shuffling : Yes

Correct Marks : 1 Wrong Marks : 0.25

एक अनुक्रम दिया गया है, जिसमें से एक पद गलत है। दिए गए विकल्पों में से उस गलत पद को चुनिए।

19, 21, 24, 26, 29, 31, 33, 37

Options :

1. ✓ 33

2. ✗ 37

3. ✗ 31

4. ✗ 29

Question Number : 23 Question Id : 54592751129 Question Type : MCQ Option Shuffling : Yes

Correct Marks : 1 Wrong Marks : 0.25

A series is given with one term wrong. Select that wrong term from the given alternatives.

91, 96, 102, 108, 114, 120, 127

Options :

1. ✗ 102

2. ✓ 108

3. ✗ 96

4. ✖ 114

Question Number : 23 Question Id : 54592751129 Question Type : MCQ Option Shuffling : Yes
Correct Marks : 1 Wrong Marks : 0.25

एक अनुक्रम दिया गया है, जिसमें से एक पद गलत है। दिए गए विकल्पों में से उस गलत पद को चुनिए।

91, 96, 102, 108, 114, 120, 127

Options :

1. ✖ 102

2. ✔ 108

3. ✖ 96

4. ✖ 114

Question Number : 24 Question Id : 54592751130 Question Type : MCQ Option Shuffling : Yes
Correct Marks : 1 Wrong Marks : 0.25

In the following question, select the number which can be placed at the sign of question mark (?) from the given alternatives.

2	3
4	?

1	7
5	144

6	2
3	225

Options :

1. ✖ 81

2. ✔ 100

3. ✖ 144

4. ✖ 121

Question Number : 24 Question Id : 54592751130 Question Type : MCQ Option Shuffling : Yes
Correct Marks : 1 Wrong Marks : 0.25

निम्नलिखित प्रश्न में दिए गए विकल्पों में से प्रश्न चिन्ह (?) के स्थान पर आने वाली संख्या को चुनिए।

2	3
4	?

1	7
5	144

6	2
3	225

Options :

1. ✘ 81
2. ✔ 100
3. ✘ 144
4. ✘ 121

Question Number : 25 Question Id : 54592751131 Question Type : MCQ Option Shuffling : Yes
Correct Marks : 1 Wrong Marks : 0.25

After interchanging the which two numbers, the value of the given equation will be '9'?

$$6 \div 3 \times 1 + 9$$

Options :

1. ✘ 6 and 3
2. ✘ 1 and 6
3. ✔ 6 and 9
4. ✘ 9 and 1

Question Number : 25 Question Id : 54592751131 Question Type : MCQ Option Shuffling : Yes
Correct Marks : 1 Wrong Marks : 0.25

किन दो संख्याओं को आपस में परस्पर बदलने के पश्चात, दिये गए समीकरण का मान '9' होगा?

$$6 \div 3 \times 1 + 9$$

Options :

1. ✖ 6 तथा 3

2. ✖ 1 तथा 6

3. ✔ 6 तथा 9

4. ✖ 9 तथा 1

Question Number : 26 Question Id : 54592751132 Question Type : MCQ Option Shuffling : Yes

Correct Marks : 1 Wrong Marks : 0.25

After interchanging the which two numbers, the value of the given equation will be '66/5'?

$$4 + 6 - 8 \div 5 \times 1$$

Options :

1. ✖ 4 and 6

2. ✖ 5 and 8

3. ✔ 8 and 4

4. ✖ 1 and 8

Question Number : 26 Question Id : 54592751132 Question Type : MCQ Option Shuffling : Yes

Correct Marks : 1 Wrong Marks : 0.25

किन दो संख्याओं को आपस में परस्पर बदलने के पश्चात, दिये गए समीकरण का मान '66/5' होगा?

$$4 + 6 - 8 \div 5 \times 1$$

Options :

1. ✖ 4 तथा 6

2. ✖ 5 तथा 8

3. ✔ 8 तथा 4

4. ✖ 1 तथा 8

Question Number : 27 Question Id : 54592751133 Question Type : MCQ Option Shuffling : Yes
Correct Marks : 1 Wrong Marks : 0.25

After interchanging the given two signs and two numbers, what will be the value of the given equation?

$$3 \text{ and } 9, \div \text{ and } - ; 3 + 8 - 4 \times 9 \div 5 + 2$$

Options :

1. ✖ 10
2. ✖ 14
3. ✖ 8
4. ✔ 12

Question Number : 27 Question Id : 54592751133 Question Type : MCQ Option Shuffling : Yes
Correct Marks : 1 Wrong Marks : 0.25

दिए गए दो चिहनों तथा दो संख्याओं को आपस में परस्पर बदलने के पश्चात, दिये गए समीकरण का मान क्या होगा?

$$3 \text{ तथा } 9, \div \text{ तथा } - ; 3 + 8 - 4 \times 9 \div 5 + 2,$$

Options :

1. ✖ 10
2. ✖ 14
3. ✖ 8
4. ✔ 12

Question Number : 28 Question Id : 54592751134 Question Type : MCQ Option Shuffling : Yes
Correct Marks : 1 Wrong Marks : 0.25

If $3 A 2 B 1 = 5$ and $5 A 3 B 2 = 64$, then $1 A 3 B 4 = ?$

Options :

1. ✖ 24
2. ✔ 256

3. * 16

4. * 128

Question Number : 28 Question Id : 54592751134 Question Type : MCQ Option Shuffling : Yes

Correct Marks : 1 Wrong Marks : 0.25

यदि $3 A 2 B 1 = 5$ तथा $5 A 3 B 2 = 64$ हो, तो $1 A 3 B 4 = ?$

Options :

1. * 24

2. ✓ 256

3. * 16

4. * 128

Question Number : 29 Question Id : 54592751135 Question Type : MCQ Option Shuffling : Yes

Correct Marks : 1 Wrong Marks : 0.25

If $45 + 98 = 92$ and $63 + 36 = 36$, then $72 + 39 = ?$

Options :

1. * 67

2. * 37

3. ✓ 41

4. * 59

Question Number : 29 Question Id : 54592751135 Question Type : MCQ Option Shuffling : Yes

Correct Marks : 1 Wrong Marks : 0.25

यदि $45 + 98 = 92$, तथा $63 + 36 = 36$ हो, तो $72 + 39 = ?$

Options :

1. * 67

2. * 37

3. ✓ 41

4. * 59

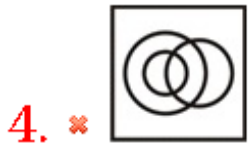
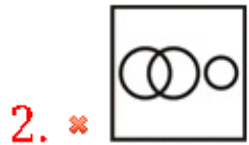
Question Number : 30 Question Id : 54592751136 Question Type : MCQ Option Shuffling : Yes

Correct Marks : 1 Wrong Marks : 0.25

Identify the diagram that best represents the relationship among the given classes.

Game, Chess, Ludo

Options :



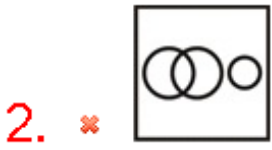
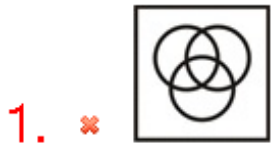
Question Number : 30 Question Id : 54592751136 Question Type : MCQ Option Shuffling : Yes

Correct Marks : 1 Wrong Marks : 0.25

वह आरेख चुनिए जो नीचे दिए गए वर्गों के बीच के संबंध का सही निरूपण करता है।

खेल, शतरंज, लुडो

Options :

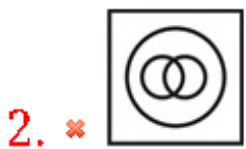


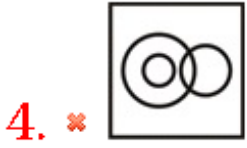
Question Number : 31 Question Id : 54592751137 Question Type : MCQ Option Shuffling : Yes
Correct Marks : 1 Wrong Marks : 0.25

Identify the diagram that best represents the relationship among the given classes.

Car, Truck, Transport

Options :





Question Number : 31 Question Id : 54592751137 Question Type : MCQ Option Shuffling : Yes
Correct Marks : 1 Wrong Marks : 0.25

वह आरेख चुनिए जो नीचे दिए गए वर्गों के बीच के संबंध का सही निरूपण करता है।

कार, ट्रक, यातायात

Options :



Question Number : 32 Question Id : 54592751138 Question Type : MCQ Option Shuffling : Yes

Correct Marks : 1 Wrong Marks : 0.25

Raman is facing towards North. Then he turns 180° clockwise. Then he turns 90° anticlockwise. Then he turns 135° anticlockwise. In which direction is he facing now?

Options :

1. ✓ North-West
2. ✗ North-East
3. ✗ North
4. ✗ East

Question Number : 32 Question Id : 54592751138 Question Type : MCQ Option Shuffling : Yes

Correct Marks : 1 Wrong Marks : 0.25

रमन उत्तर की ओर देख रहा है। वह फिर 180° दक्षिणावर्त घुमता है। वह फिर 90° वामा व्रत घुमता है। वह फिर 135° वामा व्रत घुमता है। वह अब किस दिशा की ओर मुख कर रहा है?

Options :

1. ✓ उत्तर पश्चिम
2. ✗ उत्तर पूर्व
3. ✗ उत्तर
4. ✗ पूर्व

Question Number : 33 Question Id : 54592751139 Question Type : MCQ Option Shuffling : Yes

Correct Marks : 1 Wrong Marks : 0.25

A man walks 10 metre towards North. He turns right and walks 32 metre. He turns left and walks 22 metre. He finally turns right and walks 10 metre. In which direction is he now from the starting point?

Options :

1. ✓ North East
2. ✗ North West

3. * South East

4. * South West

Question Number : 33 Question Id : 54592751139 Question Type : MCQ Option Shuffling : Yes

Correct Marks : 1 Wrong Marks : 0.25

एक पुरुष उत्तर की ओर 10 मीटर चलता है। वह दाएं मुड़ता है तथा 32 मीटर चलता है। वह बाएं मुड़ता है तथा 22 मीटर चलता है। वह अंततः दाएं मुड़ता है तथा 10 मीटर चलता है। वह आरंभिक बिंदु से अब किस दिशा में है?

Options :

1. ✓ उत्तर पूर्व

2. * उत्तर पश्चिम

3. * दक्षिण पूर्व

4. * दक्षिण पश्चिम

Question Number : 34 Question Id : 54592751140 Question Type : MCQ Option Shuffling : Yes

Correct Marks : 1 Wrong Marks : 0.25

In the following question, select the wrong figure from the given series.



Options :

1. *

2. ✓



Question Number : 34 Question Id : 54592751140 Question Type : MCQ Option Shuffling : Yes
Correct Marks : 1 Wrong Marks : 0.25

निम्नलिखित प्रश्न में, दी गयी श्रृंखला में से गलत आकृति को चुनिए।

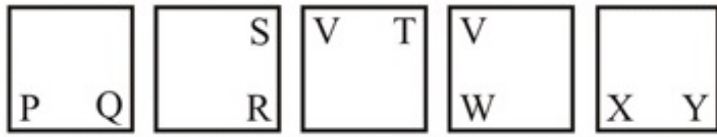


Options :

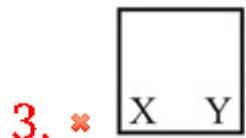
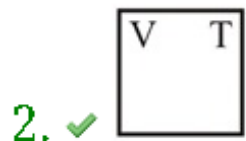


Question Number : 35 Question Id : 54592751141 Question Type : MCQ Option Shuffling : Yes
Correct Marks : 1 Wrong Marks : 0.25

In the following question, select the wrong figure from the given series.



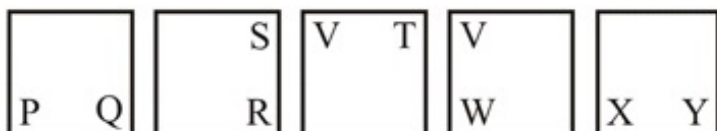
Options :



Question Number : 35 Question Id : 54592751141 Question Type : MCQ Option Shuffling : Yes

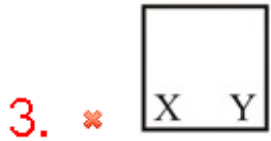
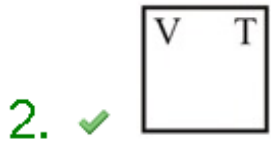
Correct Marks : 1 Wrong Marks : 0.25

निम्नलिखित प्रश्न में, दी गयी श्रृंखला में से गलत आकृति को चुनिए।



Options :

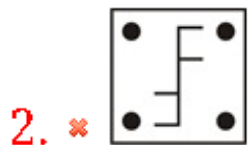
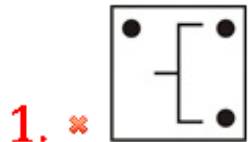




Question Number : 36 Question Id : 54592751142 Question Type : MCQ Option Shuffling : Yes
Correct Marks : 1 Wrong Marks : 0.25

In the following question, select the odd figure from the given alternatives.

Options :

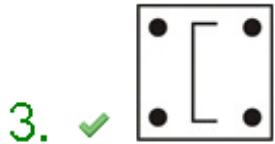
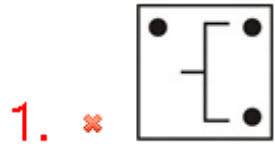


Question Number : 36 Question Id : 54592751142 Question Type : MCQ Option Shuffling : Yes

Correct Marks : 1 Wrong Marks : 0.25

निम्नलिखित प्रश्न में, दिए गए विकल्पों में से विषम आकृति को चुनिए।

Options :



Question Number : 37 Question Id : 54592751143 Question Type : MCQ Option Shuffling : Yes
Correct Marks : 1 Wrong Marks : 0.25

Three positions of a dice are given below.



Which of the following statement is correct about the given cube?

- I. P and Q are on opposite faces.
- II. R and U are on opposite faces.
- III. P and R will be adjacent to T.

Options :

1. * I and II
2. * II and III
3. ✓ I and III
4. * I, II and III

Question Number : 37 Question Id : 54592751143 Question Type : MCQ Option Shuffling : Yes
Correct Marks : 1 Wrong Marks : 0.25

नीचे एक पासे की तीन अवस्थाएँ दी गयी हैं।



दिए गए घन के बारे में कौन सा कथन सही है?

- I. P तथा Q विपरीत फलकों पर हैं।
- II. R तथा U विपरीत फलकों पर हैं।
- III. P तथा R, T के संलग्न हैं।

Options :

1. * I तथा II
2. * II तथा III
3. ✓ I तथा III
4. * I, II तथा III

Question Number : 38 Question Id : 54592751144 Question Type : MCQ Option Shuffling : Yes
Correct Marks : 1 Wrong Marks : 0.25

The dimensions of a big solid cuboid are 8 cm, 10 cm and 12 cm. After making 'l' cuts on the first axis, 'm' number of cuts on the second axis and 'n' number of cuts on the third axis, some small cubes having side 2 cm are obtained. What is the value of $l + m + n$?

Options :

1. ✖ 15
2. ✖ 14
3. ✔ 12
4. ✖ 11

Question Number : 38 Question Id : 54592751144 Question Type : MCQ Option Shuffling : Yes

Correct Marks : 1 Wrong Marks : 0.25

एक बड़े ठोस घनाभ का आयाम 8 से.मी., 10 से.मी. तथा 12 से.मी. है।

पहली अक्ष पर 'l' कटाव, दूसरी अक्ष पर 'm' कटाव तथा तीसरी अक्ष पर 'n' कटाव लगाने के बाद, 2 से.मी. भुजा वाले कुछ छोटे घन प्राप्त होते हैं। $l + m + n$ का मान क्या है?

Options :

1. ✖ 15
2. ✖ 14
3. ✔ 12
4. ✖ 11

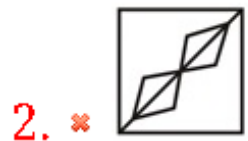
Question Number : 39 Question Id : 54592751145 Question Type : MCQ Option Shuffling : Yes

Correct Marks : 1 Wrong Marks : 0.25

From the given answer figures, select the one in which the question figure is hidden/embedded.



Options :



Question Number : 39 Question Id : 54592751145 Question Type : MCQ Option Shuffling : Yes

Correct Marks : 1 Wrong Marks : 0.25

दी गई उत्तर आकृतियों में से उस उत्तर आकृति को चुनिए जिस में प्रश्न आकृति निहित है।

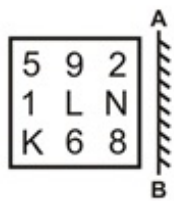


Options :



Question Number : 40 Question Id : 54592751146 Question Type : MCQ Option Shuffling : Yes
 Correct Marks : 1 Wrong Marks : 0.25

If a mirror is placed on the line AB, then which of the answer figures is the right image of the given figure?



Options :



3. ✘

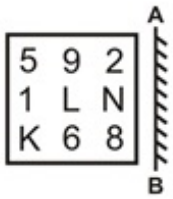
8	9	K
N	7	1
2	6	9

4. ✘

5	θ	2
1	Γ	N
K	e	8

Question Number : 40 Question Id : 54592751146 Question Type : MCQ Option Shuffling : Yes
Correct Marks : 1 Wrong Marks : 0.25

यदि एक दर्पण को AB रेखा पर रखा जाए, तो दी गई उत्तर आकृतियों में से कौन सी आकृति प्रश्न आकृति की सही प्रतिबिंब होगी?



Options :

1. ✔

5	θ	2
N	1	1
8	θ	K

2. ✘

5	θ	9
N	1	1
8	θ	K

3. ✘

8	9	K
N	1	1
2	6	9



4. ✖

General Awareness1

Group Number :	3
Group Id :	5459272533
Group Maximum Duration :	0
Group Minimum Duration :	0
Show Attended Group? :	No
Edit Attended Group? :	No
Break time:	0
Group Marks:	20
Is this Group for Examiner?:	No
Revisit allowed for group Instructions? :	Yes
Maximum Instruction Time:	0
Minimum Instruction Time:	0

General Awareness1

Section Id :	5459272533
Section Number :	1
Section type :	Online
Mandatory or Optional:	Mandatory
Number of Questions:	20
Number of Questions to be attempted:	20
Section Marks:	20

Sub-Section Number:	1
Sub-Section Id:	5459273039
Question Shuffling Allowed :	Yes

Question Number : 41 Question Id : 54592751147 Question Type : MCQ Option Shuffling : Yes
Correct Marks : 1 Wrong Marks : 0.25

‘Losar’ festival falls in the month of _____.

Options :

1. ✖ October

2. ✖ August

3. ✖ December

4. ✓ February

Question Number : 41 Question Id : 54592751147 Question Type : MCQ Option Shuffling : Yes
Correct Marks : 1 Wrong Marks : 0.25

लोसर त्योहार _____ के महीने में आता है।

Options :

1. ✘ अक्टूबर
2. ✘ अगस्त
3. ✘ दिसंबर
4. ✓ फरवरी

Question Number : 42 Question Id : 54592751148 Question Type : MCQ Option Shuffling : Yes
Correct Marks : 1 Wrong Marks : 0.25

Kevada Mosque is situated in which state?

Options :

1. ✘ Uttar Pradesh
2. ✘ Maharashtra
3. ✘ Madhya Pradesh
4. ✓ Gujarat

Question Number : 42 Question Id : 54592751148 Question Type : MCQ Option Shuffling : Yes
Correct Marks : 1 Wrong Marks : 0.25

केवड़ा मस्जिद किस राज्य में स्थित है?

Options :

1. ✘ उत्तर प्रदेश
2. ✘ महाराष्ट्र
3. ✘ मध्य प्रदेश
4. ✓ गुजरात

Question Number : 43 Question Id : 54592751149 Question Type : MCQ Option Shuffling : Yes
Correct Marks : 1 Wrong Marks : 0.25

'Kanniyar Kali' folk dance of Kerala is also known as _____.

Options :

1. * Pulikali
2. * Kaliyattom
3. * Vatrakali
4. ✓ Desathukali

Question Number : 43 Question Id : 54592751149 Question Type : MCQ Option Shuffling : Yes

Correct Marks : 1 Wrong Marks : 0.25

केरल के 'कनियार कली' लोक नृत्य को _____ के रूप में भी जाना जाता है।

Options :

1. * पुलीकली
2. * कलियाट्टम
3. * वत्रकली
4. ✓ देशथु कली

Question Number : 44 Question Id : 54592751150 Question Type : MCQ Option Shuffling : Yes

Correct Marks : 1 Wrong Marks : 0.25

Which of the following pairs of state-festival is NOT correct?

- I. Assam – Pongal
- II. Rajasthan – Gangaur Teej
- III. Mizoram – Chapchar Kut

Options :

1. ✓ Only I
2. * Only I and II
3. * Only I and III
4. * Only II

Question Number : 44 Question Id : 54592751150 Question Type : MCQ Option Shuffling : Yes

Correct Marks : 1 Wrong Marks : 0.25

निम्नलिखित में से कौन सा राज्य - त्योहार युग्म सही नहीं है?

- I. असम - पोंगल
- II. राजस्थान - गणगौर तीज
- III. मिज़ोरम - चपचार कुट या कूट

Options :

1. ✓ केवल I
2. ✗ केवल I तथा II
3. ✗ केवल I तथा III
4. ✗ केवल II

Question Number : 45 Question Id : 54592751151 Question Type : MCQ Option Shuffling : Yes

Correct Marks : 1 Wrong Marks : 0.25

Who is responsible for Monetary Policy formulation and implementation in India?

Options :

1. ✓ Reserve Bank of India
2. ✗ Securities and Exchange Board of India
3. ✗ Insurance Regulatory and Development Authority of India
4. ✗ National Bank for Agriculture and Rural Development

Question Number : 45 Question Id : 54592751151 Question Type : MCQ Option Shuffling : Yes

Correct Marks : 1 Wrong Marks : 0.25

भारत में मौद्रिक नीति के निर्माण और कार्यान्वयन के लिए कौन जिम्मेदार है?

Options :

1. ✓ भारतीय रिज़र्व बैंक
2. ✗ भारतीय प्रतिभूति और विनिमय बोर्ड

3. * भारतीय बीमा विनियामक और विकास प्राधिकरण

4. * राष्ट्रीय कृषि एवं ग्रामीण विकास बैंक

Question Number : 46 Question Id : 54592751152 Question Type : MCQ Option Shuffling : Yes

Correct Marks : 1 Wrong Marks : 0.25

Which of the following does NOT form part of India's Foreign Exchange Reserves?

Options :

1. * Gold

2. * Reserve Tranche Position in International Monetary Fund

3. * Foreign Currency Assets

4. ✓ Sovereign loan from foreign governments

Question Number : 46 Question Id : 54592751152 Question Type : MCQ Option Shuffling : Yes

Correct Marks : 1 Wrong Marks : 0.25

निम्नलिखित में से कौन भारत की विदेशी मुद्रा आरक्षित निधियों का हिस्सा नहीं है?

Options :

1. * सोना

2. * अंतरराष्ट्रीय मुद्रा कोष में रिज़र्व शेयरों के हिस्से की स्थिति

3. * विदेशी मुद्रा आस्तियाँ

4. ✓ विदेशी सरकारों से राष्ट्रिक ऋण

Question Number : 47 Question Id : 54592751153 Question Type : MCQ Option Shuffling : Yes

Correct Marks : 1 Wrong Marks : 0.25

For which crop Fair and Remunerative Price is announced by the government?

Options :

1. * Cotton

2. * Jute

3. ✓ Sugarcane

4. * Rice

Question Number : 47 Question Id : 54592751153 Question Type : MCQ Option Shuffling : Yes
Correct Marks : 1 Wrong Marks : 0.25

सरकार द्वारा किस फसल के लिए उचित एवं लाभकारी मूल्य की घोषणा की जाती है?

Options :

1. * कपास
2. * जूट
3. ✓ गन्ना
4. * चावल

Question Number : 48 Question Id : 54592751154 Question Type : MCQ Option Shuffling : Yes
Correct Marks : 1 Wrong Marks : 0.25

Spinach contains _____ acid.

Options :

1. * Citric
2. * Lactic
3. ✓ Oxalic
4. * Tartaric

Question Number : 48 Question Id : 54592751154 Question Type : MCQ Option Shuffling : Yes
Correct Marks : 1 Wrong Marks : 0.25

पालक में _____ अम्ल होता है।

Options :

1. * सिट्रिक
2. * लैक्टिक
3. ✓ ऑक्सैलिक
4. * टार्टरिक

Question Number : 49 Question Id : 54592751155 Question Type : MCQ Option Shuffling : Yes

Correct Marks : 1 Wrong Marks : 0.25

A pencil of length 7 cm is measured using a scale of 15 cm length. The reading at end of pencil is 8 cm. The reading at the start of pencil is _____.

Options :

1. ✓ 1 cm
2. ✗ 2 cm
3. ✗ 3 cm
4. ✗ 15 cm

Question Number : 49 Question Id : 54592751155 Question Type : MCQ Option Shuffling : Yes

Correct Marks : 1 Wrong Marks : 0.25

एक 7 से.मी. लंबी पेंसिल को 15 से.मी. लम्बाई वाले स्केल का उपयोग करके मापा जाता है। पेंसिल के अंत में स्केल 8 से.मी. दिखाता है। पेंसिल की शुरुआत में स्केल _____ दिखाता है।

Options :

1. ✓ 1 से.मी.
2. ✗ 2 से.मी.
3. ✗ 3 से.मी.
4. ✗ 15 से.मी.

Question Number : 50 Question Id : 54592751156 Question Type : MCQ Option Shuffling : Yes

Correct Marks : 1 Wrong Marks : 0.25

Which of the following bacteria promotes the formation of curd?

Options :

1. ✗ E.Coli
2. ✗ Azotobactor
3. ✗ Clostridium
4. ✓ Lactobacillus

Question Number : 50 Question Id : 54592751156 Question Type : MCQ Option Shuffling : Yes

Correct Marks : 1 Wrong Marks : 0.25

निम्नलिखित में से कौन सा जीवाणु दही के गठन को बढ़ावा होता है?

Options :

1. ✖ ई. कोलाई
2. ✖ एजोटोबैक्टर
3. ✖ क्लोस्ट्रीडियम
4. ✔ लैक्टोबैसिलस

Question Number : 51 Question Id : 54592751157 Question Type : MCQ Option Shuffling : Yes

Correct Marks : 1 Wrong Marks : 0.25

Which of the following preservative/technique can be used to preserve 'amla' and 'raw mango'?

Options :

1. ✖ Sugar
2. ✖ Oil and Vinegar
3. ✖ Hot and cold treatment
4. ✔ Common Salt

Question Number : 51 Question Id : 54592751157 Question Type : MCQ Option Shuffling : Yes

Correct Marks : 1 Wrong Marks : 0.25

निम्नलिखित में से कौन से परिरक्षक/तकनीक का उपयोग 'आंवला' तथा 'कच्चे आम' को संरक्षित करने के लिए किया जा सकता है?

Options :

1. ✖ चीनी
2. ✖ तेल तथा सिरका
3. ✖ गर्म तथा ठंडा करना
4. ✔ नमक

Question Number : 52 Question Id : 54592751158 Question Type : MCQ Option Shuffling : Yes

Correct Marks : 1 Wrong Marks : 0.25

What is the nature of image formed by human eye lens on the retina?

Options :

1. * Virtual and Erect
2. * Real and Erect
3. ✓ Real and Inverted
4. * Virtual and Inverted

Question Number : 52 Question Id : 54592751158 Question Type : MCQ Option Shuffling : Yes

Correct Marks : 1 Wrong Marks : 0.25

मानव नेत्र लेंस द्वारा दृष्टिपटल पर बनाए गए प्रतिबिंब की प्रकृति क्या होती है?

Options :

1. * आभासी तथा सीधा
2. * वास्तविक तथा सीधा
3. ✓ वास्तविक तथा उलटा
4. * आभासी तथा उलटा

Question Number : 53 Question Id : 54592751159 Question Type : MCQ Option Shuffling : Yes

Correct Marks : 1 Wrong Marks : 0.25

Which of the following element is sonorous?

Options :

1. * Carbon
2. * Sulphur
3. * Hydrogen
4. ✓ Zinc

Question Number : 53 Question Id : 54592751159 Question Type : MCQ Option Shuffling : Yes

Correct Marks : 1 Wrong Marks : 0.25

निम्नलिखित में से किस तत्व में ध्वानिक गुण है?

Options :

1. ✖ कार्बन
2. ✖ सल्फर
3. ✖ हाइड्रोजन
4. ✔ जिंक

Question Number : 54 Question Id : 54592751160 Question Type : MCQ Option Shuffling : Yes
Correct Marks : 1 Wrong Marks : 0.25

When a copper vessel is exposed to moist air for long, it acquires a dull green coating. It is due to the formation of _____.

Options :

1. ✖ Copper Oxide
2. ✖ Copper Sulphide
3. ✔ Copper Hydroxide and Copper Carbonate
4. ✖ Copper Nitrate

Question Number : 54 Question Id : 54592751160 Question Type : MCQ Option Shuffling : Yes
Correct Marks : 1 Wrong Marks : 0.25

जब एक तांबे के बर्तन को लंबे समय तक नम वायु में खुला रखा जाता है तो उस पर एक हलकी हरी परत जम जाती है। यह _____ की उत्पत्ति के कारण होता है।

Options :

1. ✖ कॉपर ऑक्साइड
2. ✖ कॉपर सल्फाइड
3. ✔ कॉपर हाइड्रॉक्साइड तथा कॉपर कार्बोनेट
4. ✖ कॉपर नाइट्रेट

Question Number : 55 Question Id : 54592751161 Question Type : MCQ Option Shuffling : Yes
Correct Marks : 1 Wrong Marks : 0.25

The sound wave with amplitude A has loudness of 10 dB. If the amplitude of sound wave is quadrupled, the new loudness of sound is _____.

Options :

1. ✖ 40 dB
2. ✖ 400 dB
3. ✔ 160 dB
4. ✖ 2.5 dB

Question Number : 55 Question Id : 54592751161 Question Type : MCQ Option Shuffling : Yes

Correct Marks : 1 Wrong Marks : 0.25

आयाम A वाली ध्वनि तरंग में की प्रबलता 10 dB है। यदि ध्वनि तरंग का आयाम चौगुना कर दिया जाए, तो ध्वनि की नई प्रबलता _____ होगी।

Options :

1. ✖ 40 dB
2. ✖ 400 dB
3. ✔ 160 dB
4. ✖ 2.5 dB

Question Number : 56 Question Id : 54592751162 Question Type : MCQ Option Shuffling : Yes

Correct Marks : 1 Wrong Marks : 0.25

_____ is the number of live births per thousand persons in a year.

Options :

1. ✖ Growth Rate
2. ✖ Death Rate
3. ✔ Birth Rate
4. ✖ Population Rate

Question Number : 56 Question Id : 54592751162 Question Type : MCQ Option Shuffling : Yes
Correct Marks : 1 Wrong Marks : 0.25

_____ एक वर्ष में प्रति हजार व्यक्तियों पर जन्मों (जीवित) की संख्या है।

Options :

1. * वृद्धि दर
2. * मृत्यु दर
3. ✓ जन्म दर
4. * जनसंख्या दर

Question Number : 57 Question Id : 54592751163 Question Type : MCQ Option Shuffling : Yes
Correct Marks : 1 Wrong Marks : 0.25

Which of the following pairs is NOT correctly matched?

Options :

1. * Rabi crops – Wheat and Barley
2. * Kharif Crops – Maize and Jowar
3. * Zaid Crops – Watermelon and Cucumber
4. ✓ Zaid Crops – Jowar and Barley

Question Number : 57 Question Id : 54592751163 Question Type : MCQ Option Shuffling : Yes
Correct Marks : 1 Wrong Marks : 0.25

निम्नलिखित में से कौन सी जोड़ी सही से मेल नहीं खाती है?

Options :

1. * रबी की फसलें - गेहूं और जौ
2. * खरीफ की फसलें - मक्का और ज्वार
3. * जायद की फसलें - तरबूज और ककड़ी
4. ✓ जायद की फसलें - ज्वार और जौ

Question Number : 58 Question Id : 54592751164 Question Type : MCQ Option Shuffling : Yes
Correct Marks : 1 Wrong Marks : 0.25

Which of the following is a peak of Himalayas?

Options :

1. ✖ Guru Shikhar
2. ✔ Dhaulagiri
3. ✖ Anamudi
4. ✖ Palani Hills

Question Number : 58 Question Id : 54592751164 Question Type : MCQ Option Shuffling : Yes
Correct Marks : 1 Wrong Marks : 0.25

निम्नलिखित में से कौन सा शिखर हिमालय का है?

Options :

1. ✖ गुरु शिखर
2. ✔ धौलागिरी
3. ✖ अनामुड़ी
4. ✖ पलानी हिल्स

Question Number : 59 Question Id : 54592751165 Question Type : MCQ Option Shuffling : Yes
Correct Marks : 1 Wrong Marks : 0.25

Arrange the following rivers from North to South direction.

I – Chenab

II – Kaveri

III – Ganga

IV – Tapi

Which of the following sequence is correct?

Options :

1. ✖ III, I, IV, II
2. ✖ I, III, II, IV
3. ✔ I, III, IV, II
4. ✖ IV, I, II, III

Question Number : 59 Question Id : 54592751165 Question Type : MCQ Option Shuffling : Yes

Correct Marks : 1 Wrong Marks : 0.25

निम्नलिखित नदियों को उत्तर से दक्षिण दिशा में व्यवस्थित करें।

I - चेनाब

II - कावेरी

III - गंगा

IV - तापी

निम्नलिखित में से कौन सा क्रम सही है?

Options :

1. ✖ III, I, IV, II

2. ✖ I, III, II, IV

3. ✔ I, III, IV, II

4. ✖ IV, I, II, III

Question Number : 60 Question Id : 54592751166 Question Type : MCQ Option Shuffling : Yes

Correct Marks : 1 Wrong Marks : 0.25

'Makku', 'Trang' and 'Jiri' are tributaries of which river?

Options :

1. ✖ Mahanadi

2. ✖ Luni

3. ✖ Krishna

4. ✔ Meghna

Question Number : 60 Question Id : 54592751166 Question Type : MCQ Option Shuffling : Yes

Correct Marks : 1 Wrong Marks : 0.25

'मक्कू', 'त्रांग', और 'जिरी' किस नदी की सहायक नदियाँ हैं?

Options :

1. ✖ महानदी

2. ✖ लूनी

3. ✖ कृष्णा

4. ✔ मेघना

General Awareness2

Group Number :	4
Group Id :	5459272534
Group Maximum Duration :	0
Group Minimum Duration :	0
Show Attended Group? :	No
Edit Attended Group? :	No
Break time:	0
Group Marks:	20
Is this Group for Examiner? :	No
Revisit allowed for group Instructions? :	Yes
Maximum Instruction Time:	0
Minimum Instruction Time:	0

General Awareness2

Section Id :	5459272534
Section Number :	1
Section type :	Online
Mandatory or Optional:	Mandatory
Number of Questions:	20
Number of Questions to be attempted:	20
Section Marks:	20

Sub-Section Number:	1
Sub-Section Id:	5459273040
Question Shuffling Allowed :	Yes

Question Number : 61 Question Id : 54592751167 Question Type : MCQ Option Shuffling : Yes
Correct Marks : 1 Wrong Marks : 0.25

Which crop requires cool weather with moderate rainfall and it grows well in the northern plains of India during winter season when the mean temperature is between 10 and 15 degree Celsius?

Options :

1. ✖ Rice

2. ✓ Wheat

3. ✘ Cotton

4. ✘ Sugarcane

Question Number : 61 Question Id : 54592751167 Question Type : MCQ Option Shuffling : Yes

Correct Marks : 1 Wrong Marks : 0.25

किस फसल को मध्यम वर्षा के साथ ठंडे मौसम की आवश्यकता होती है, और यह भारत के उत्तरी मैदानों में सर्दियों के मौसम के दौरान जब औसत तापमान 10 और 15 डिग्री सेल्सियस के बीच होता है, अच्छी तरह से बढ़ती है ?

Options :

1. ✘ चावल

2. ✓ गेहूँ

3. ✘ कपास

4. ✘ गन्ना

Question Number : 62 Question Id : 54592751168 Question Type : MCQ Option Shuffling : Yes

Correct Marks : 1 Wrong Marks : 0.25

Who was the last Mughal emperor of India?

Options :

1. ✘ Shah Alam II

2. ✘ Muhammad Shah

3. ✘ Jahandar Shah

4. ✓ Bahadur Shah Zafar

Question Number : 62 Question Id : 54592751168 Question Type : MCQ Option Shuffling : Yes

Correct Marks : 1 Wrong Marks : 0.25

भारत का अंतिम मुगल सम्राट कौन था?

Options :

1. ✘ शाह आलम II

2. * मुहम्मद शाह
3. * जहांदार शाह
4. ✓ बहादुर शाह ज़फ़र

Question Number : 63 Question Id : 54592751169 Question Type : MCQ Option Shuffling : Yes
Correct Marks : 1 Wrong Marks : 0.25

Which of the following leader was NOT associated with Brahma Samaj?

Options :

1. ✓ Bal Gangadhar Tilak
2. * Raja Rammohan Roy
3. * Keshab Chandra Sen
4. * Debendranath Tagore

Question Number : 63 Question Id : 54592751169 Question Type : MCQ Option Shuffling : Yes
Correct Marks : 1 Wrong Marks : 0.25

निम्नलिखित में से कौन सा नेता ब्रह्म समाज से नहीं जुड़ा हुआ था?

Options :

1. ✓ बाल गंगाधर तिलक
2. * राजा राममोहन रॉय
3. * केशव चंद्र सेन
4. * देवेन्द्रनाथ टैगोर

Question Number : 64 Question Id : 54592751170 Question Type : MCQ Option Shuffling : Yes
Correct Marks : 1 Wrong Marks : 0.25

Which of the following British India Acts passed a resolution for holding Indian Civil Services Examination simultaneously in London and in India?

Options :

1. * Charter Act of 1813
2. ✓ Indian Councils Act of 1892

3. * Charter Act of 1853

4. * Regulating Act of 1773

Question Number : 64 Question Id : 54592751170 Question Type : MCQ Option Shuffling : Yes

Correct Marks : 1 Wrong Marks : 0.25

निम्नलिखित में से किस ब्रिटिश इंडिया अधिनियम ने लंदन और भारत में एक साथ भारतीय सिविल सेवा परीक्षा आयोजित करने का प्रस्ताव पारित किया था?

Options :

1. * 1813 का चार्टर अधिनियम

2. ✓ 1892 का भारतीय परिषद् अधिनियम

3. * 1853 का चार्टर अधिनियम

4. * 1773 का विनियमन अधिनियम

Question Number : 65 Question Id : 54592751171 Question Type : MCQ Option Shuffling : Yes

Correct Marks : 1 Wrong Marks : 0.25

Under the rule of which Governor-General 'Sati' practice was abolished?

Options :

1. * Charles Cornwallis

2. * Lord Mayo

3. * Richard Wellesley

4. ✓ William Bentinck

Question Number : 65 Question Id : 54592751171 Question Type : MCQ Option Shuffling : Yes

Correct Marks : 1 Wrong Marks : 0.25

किस गवर्नर-जनरल के शासन के तहत सती प्रथा को समाप्त किया गया था?

Options :

1. * चार्ल्स कर्नवालिस

2. ✖ लॉर्ड मेयो
3. ✖ रिचर्ड वेलेस्ली
4. ✔ विलियम बेंटिक

Question Number : 66 Question Id : 54592751172 Question Type : MCQ Option Shuffling : Yes
Correct Marks : 1 Wrong Marks : 0.25

Which Pala king founded Vikramshila University?

Options :

1. ✔ Dharmapala
2. ✖ Gopala I
3. ✖ Mahipala II
4. ✖ Kumarapala

Question Number : 66 Question Id : 54592751172 Question Type : MCQ Option Shuffling : Yes
Correct Marks : 1 Wrong Marks : 0.25

किस पाल राजा ने विक्रमशिला विश्वविद्यालय की स्थापना की थी?

Options :

1. ✔ धर्मपाल
2. ✖ गोपाल ।
3. ✖ महिपाल ॥
4. ✖ कुमारपाल

Question Number : 67 Question Id : 54592751173 Question Type : MCQ Option Shuffling : Yes
Correct Marks : 1 Wrong Marks : 0.25

Which of the following is a feature of Wood's Despatch?

Options :

1. ✖ It declared that Indians should be only taught vernacular languages
2. ✖ For higher education, Hindi was to be the medium of instruction

3. ✓ English as the medium of instruction for higher education

4. ✘ Only Indian languages were to be taught to the Indians

Question Number : 67 Question Id : 54592751173 Question Type : MCQ Option Shuffling : Yes

Correct Marks : 1 Wrong Marks : 0.25

निम्नलिखित में से क्या वुड्स डिस्पैच की विशेषता है?

Options :

1. ✘ इसने घोषणा की कि भारतीयों को केवल देशी भाषाएँ सिखाई जाए

2. ✘ उच्च शिक्षा के लिए हिंदी शिक्षा का माध्यम होगी

3. ✓ उच्च शिक्षा के लिए अंग्रेजी शिक्षा का माध्यम होगी

4. ✘ भारतीयों को केवल भारतीय भाषाएँ पढ़ाई जाएंगी

Question Number : 68 Question Id : 54592751174 Question Type : MCQ Option Shuffling : Yes

Correct Marks : 1 Wrong Marks : 0.25

Which Indian film won NETPAC award at 23rd Bucheon International Fantastic Film Festival (BIFAN) in South Korea?

Options :

1. ✘ Padmaavat

2. ✘ Andhadhun

3. ✓ Gully Boy

4. ✘ Ek Ladki Ko Dekha Toh Aisa Laga

Question Number : 68 Question Id : 54592751174 Question Type : MCQ Option Shuffling : Yes

Correct Marks : 1 Wrong Marks : 0.25

निम्नलिखित में से किस फिल्म ने दक्षिण कोरिया में आयोजित 23 वें बुकियाँन इंटरनेशनल फैंटास्टिक फिल्म फेस्टिवल (बी फान) में नेटपेक पुरस्कार जीता?

Options :

1. ✘ पद्मावत

2. ✘ अँधाधुन

3. ✓ गली बॉय

4. ✖ एक लड़की को देखा तो ऐसा लगा

Question Number : 69 Question Id : 54592751175 Question Type : MCQ Option Shuffling : Yes

Correct Marks : 1 Wrong Marks : 0.25

Who won Amnesty International's 'Ambassador of Conscience Award' 2019?

Options :

1. ✖ Malala Yousafzai

2. ✖ Vandana Shiva

3. ✓ Greta Thunberg

4. ✖ Marina Silva

Question Number : 69 Question Id : 54592751175 Question Type : MCQ Option Shuffling : Yes

Correct Marks : 1 Wrong Marks : 0.25

2019 का एमनेस्टी इंटरनेशनल का 'एंबेसडर ऑफ कॉन्शियन्स' अवार्ड किसने जीता है?

Options :

1. ✖ मलाला यूसूफ़जई

2. ✖ वंदना शिवा

3. ✓ ग्रेटा थुनबर्ग

4. ✖ मरीना सिल्वा

Question Number : 70 Question Id : 54592751176 Question Type : MCQ Option Shuffling : Yes

Correct Marks : 1 Wrong Marks : 0.25

First IPS to complete 'Seven Summits Challenge' is _____.

Options :

1. ✖ Kiran Bedi

2. ✖ Ravindra Kumar

3. ✓ Aparna Kumar

4. * Sanjay Kumar

Question Number : 70 Question Id : 54592751176 Question Type : MCQ Option Shuffling : Yes
Correct Marks : 1 Wrong Marks : 0.25

"7 शिखर चुनौती" को पूरा करने वाला/वाली प्रथम आई.पी.एस _____ है।

Options :

1. * किरण बेदी
2. * रविन्द्र कुमार
3. ✓ अपर्णा कुमार
4. * संजय कुमार

Question Number : 71 Question Id : 54592751177 Question Type : MCQ Option Shuffling : Yes
Correct Marks : 1 Wrong Marks : 0.25

'Lessons Life Taught Me Unknowingly' is an autobiography of which of the following personalities?

Options :

1. * Anu Kapoor
2. * Hema Malini
3. * Rishi Kapoor
4. ✓ Anupam Kher

Question Number : 71 Question Id : 54592751177 Question Type : MCQ Option Shuffling : Yes
Correct Marks : 1 Wrong Marks : 0.25

लेसन्स लाइफ टॉट मी अननोइंगली' निम्न में से किस व्यक्तित्व की आत्मकथा है?

Options :

1. * अनु कपूर
2. * हेमा मालिनी
3. * ऋषि कपूर

4. ✓ अनुपम खेर

Question Number : 72 Question Id : 54592751178 Question Type : MCQ Option Shuffling : Yes
Correct Marks : 1 Wrong Marks : 0.25

Which Indian author has been appointed as the director of London's Nehru Centre?

Options :

1. ✘ Arundhati Roy
2. ✘ Amitav Ghosh
3. ✓ Amish Tripathi
4. ✘ Chetan Bhagat

Question Number : 72 Question Id : 54592751178 Question Type : MCQ Option Shuffling : Yes
Correct Marks : 1 Wrong Marks : 0.25

किस भारतीय लेखक/लेखिका को लंदन के नेहरू केंद्र के निर्देशक के रूप में नियुक्त किया गया है?

Options :

1. ✘ अरुंधति राँय
2. ✘ अमिताव घोष
3. ✓ अमीष त्रिपाठी
4. ✘ चेतन भगत

Question Number : 73 Question Id : 54592751179 Question Type : MCQ Option Shuffling : Yes
Correct Marks : 1 Wrong Marks : 0.25

'Order of the Distinguished Rule of Nishan Izzuddeen' has been conferred on Prime Minister Narendra Modi by which of the following country?

Options :

1. ✘ UAE
2. ✘ Malaysia
3. ✓ Maldives

4. * Indonesia

Question Number : 73 Question Id : 54592751179 Question Type : MCQ Option Shuffling : Yes
Correct Marks : 1 Wrong Marks : 0.25

‘आर्डर ऑफ़ दी डिस्टिंगुइशेड रूल ऑफ़ निशान इज्जुद्दीन’ से प्रधान मंत्री नरेंद्र मोदी को सम्मानित करने वाला कौन सा देश है?

Options :

1. * यु.ए.ई
2. * मलेशिया
3. ✓ मालदीव
4. * इंडोनेशिया

Question Number : 74 Question Id : 54592751180 Question Type : MCQ Option Shuffling : Yes
Correct Marks : 1 Wrong Marks : 0.25

Which of the following statements is correct regarding qualification for election as President of India?

- I. The person must be a citizen of India.
- II. Completed the age of 35 years.
- III. Should necessarily hold office of profit.

Options :

1. * Only I
2. * I, II and III
3. ✓ I and II
4. * II and III

Question Number : 74 Question Id : 54592751180 Question Type : MCQ Option Shuffling : Yes
Correct Marks : 1 Wrong Marks : 0.25

भारत के राष्ट्रपति पद के लिए योग्यता के संबंध में निम्नलिखित में से कौन सा कथन सही है?

- I. वह व्यक्ति भारत का नागरिक होना चाहिए।
- II. 35 वर्ष की आयु पूर्ण होनी चाहिए।
- III. लाभ का पद धारण किया होना चाहिए।

Options :

1. * केवल I
2. * I, II तथा III
3. ✓ I तथा II
4. * II तथा III

Question Number : 75 Question Id : 54592751181 Question Type : MCQ Option Shuffling : Yes
Correct Marks : 1 Wrong Marks : 0.25

Fifth Schedule of the Indian Constitution deals with which of the following?

Options :

1. * Forms of Oaths and Affirmations
2. * Allocation of seats in the Rajya Sabha
3. * Three lists (Union, State and Concurrent)
4. ✓ Provisions as to the administration and control of Scheduled Areas and Scheduled Tribes

Question Number : 75 Question Id : 54592751181 Question Type : MCQ Option Shuffling : Yes
Correct Marks : 1 Wrong Marks : 0.25

भारतीय संविधान की पांचवीं अनुसूची निम्नलिखित में से किससे संबंधित है?

Options :

1. * शपथ और पुष्टि

2. ✖ राज्यसभा में सीटों का आवंटन

3. ✖ तीन सूचियाँ (संघ, राज्य तथा समवर्ती)

4. ✔ अनुसूचित क्षेत्रों और अनुसूचित जनजातियों के प्रशासन और नियंत्रण से सम्बंधित प्रावधान

Question Number : 76 Question Id : 54592751182 Question Type : MCQ Option Shuffling : Yes

Correct Marks : 1 Wrong Marks : 0.25

Voting age was reduced from 21 to 18 years by which of the following Amendment Act?

Options :

1. ✔ 61st

2. ✖ 60th

3. ✖ 81st

4. ✖ 77th

Question Number : 76 Question Id : 54592751182 Question Type : MCQ Option Shuffling : Yes

Correct Marks : 1 Wrong Marks : 0.25

मतदान की आयु 21 से घटाकर 18 वर्ष निम्नलिखित में से कौन से संशोधन अधिनियम के द्वारा कर दी गई थी?

Options :

1. ✔ 61 वें

2. ✖ 60 वें

3. ✖ 81 वें

4. ✖ 77 वें

Question Number : 77 Question Id : 54592751183 Question Type : MCQ Option Shuffling : Yes

Correct Marks : 1 Wrong Marks : 0.25

74th Constitutional Amendment Act gave constitutional recognition to the Municipalities by adding _____.

1. PART IX A
2. Twelfth Schedule
3. PART IX B
4. Tenth Schedule

Options :

1. * Both 1 and 3
2. * Only 2
3. ✓ Both 1 and 2
4. * Both 3 and 4

Question Number : 77 Question Id : 54592751183 Question Type : MCQ Option Shuffling : Yes
Correct Marks : 1 Wrong Marks : 0.25

74 वे संशोधन अधिनियम ने नगरपालिकाओं को _____ जोड़कर
संवैधानिक मान्यता प्रदान की

1. भाग IX A
2. बारहवीं अनुसूची
3. भाग X B
4. दसवीं अनुसूची।

Options :

1. * 1 तथा 3 दोनों
2. * केवल 2
3. ✓ 1 तथा 2 दोनों
4. * 3 तथा 4 दोनों

Question Number : 78 Question Id : 54592751184 Question Type : MCQ Option Shuffling : Yes

Correct Marks : 1 Wrong Marks : 0.25

Which country won the 2019 Intercontinental Cup of football?

Options :

1. ✖ Tajikistan
2. ✖ India
3. ✖ Syria
4. ✔ Korea DPR

Question Number : 78 Question Id : 54592751184 Question Type : MCQ Option Shuffling : Yes

Correct Marks : 1 Wrong Marks : 0.25

फुटबॉल का 2019 इंटरकांटेनेंटल कप किस देश ने जीता?

Options :

1. ✖ तजाकिस्तान
2. ✖ भारत
3. ✖ सीरिया
4. ✔ कोरिया डि.पी.आर

Question Number : 79 Question Id : 54592751185 Question Type : MCQ Option Shuffling : Yes

Correct Marks : 1 Wrong Marks : 0.25

Which team won Indian Premier League (IPL) title in 2019?

Options :

1. ✖ Kolkata Knight Riders
2. ✖ Chennai Super Kings
3. ✔ Mumbai Indians
4. ✖ Delhi Daredevils

Question Number : 79 Question Id : 54592751185 Question Type : MCQ Option Shuffling : Yes

Correct Marks : 1 Wrong Marks : 0.25

2019 में IPL का खिताब जीतने वाली टीम कौनसी है?

Options :

1. ✖ कोलकाता नाइट राइडर्स

2. * चेन्नई सुपर किंग्स

3. ✓ मुंबई इंडियंस

4. * दिल्ली डेयरडेविल्स

Question Number : 80 Question Id : 54592751186 Question Type : MCQ Option Shuffling : Yes
Correct Marks : 1 Wrong Marks : 0.25

Which tennis player was recently fined 10,000 Dollars for damaging Wimbledon court?

Options :

1. ✓ Serena Williams

2. * Simona Halep

3. * Maria Sharapova

4. * Naomi Osaka

Question Number : 80 Question Id : 54592751186 Question Type : MCQ Option Shuffling : Yes
Correct Marks : 1 Wrong Marks : 0.25

किस टेनिस खिलाड़ी पर हाल ही में विंबलडन कोर्ट को नुकसान पहुंचाने के लिए 10,000 डॉलर का जुर्माना लगाया गया था?

Options :

1. ✓ सेरेना विलियम्स

2. * सिमोना हालेप

3. * मारिया शारापोवा

4. * नाओमी ओसाका

Arithmetic Ability1

Group Number : 5
Group Id : 5459272535
Group Maximum Duration : 0
Group Minimum Duration : 0
Show Attended Group? : No
Edit Attended Group? : No
Break time: 0

Group Marks:	20
Is this Group for Examiner?:	No
Revisit allowed for group Instructions? :	Yes
Maximum Instruction Time:	0
Minimum Instruction Time:	0

Arithmetic Ability1

Section Id :	5459272535
Section Number :	1
Section type :	Online
Mandatory or Optional:	Mandatory
Number of Questions:	20
Number of Questions to be attempted:	20
Section Marks:	20

Sub-Section Number:	1
Sub-Section Id:	5459273041
Question Shuffling Allowed :	Yes

Question Number : 81 Question Id : 54592751187 Question Type : MCQ Option Shuffling : Yes
Correct Marks : 1 Wrong Marks : 0.25

What is the value of $(27^{2/3} + 27^{-2/3})$?

Options :

1. ✓ 82/9
2. ✗ 83/9
3. ✗ 84/9
4. ✗ 85/9

Question Number : 81 Question Id : 54592751187 Question Type : MCQ Option Shuffling : Yes
Correct Marks : 1 Wrong Marks : 0.25

$(27^{2/3} + 27^{-2/3})$ का मान क्या है?

Options :

1. ✓ 82/9
2. ✗ 83/9
3. ✗ 84/9
4. ✗ 85/9

Question Number : 82 Question Id : 54592751188 Question Type : MCQ Option Shuffling : Yes

Correct Marks : 1 Wrong Marks : 0.25

The Highest Common Factor and Least Common Multiple of two numbers are 16 and 240 respectively. What can be the numbers?

Options :

1. ✖ 40 and 48
2. ✖ 60 and 72
3. ✖ 60 and 84
4. ✔ 48 and 80

Question Number : 82 Question Id : 54592751188 Question Type : MCQ Option Shuffling : Yes

Correct Marks : 1 Wrong Marks : 0.25

दो संख्याओं का महत्तम समापवर्तक तथा लघुत्तम समापवर्त्य क्रमशः 16 तथा 240 हैं। संख्याएँ क्या हो सकती हैं?

Options :

1. ✖ 40 तथा 48
2. ✖ 60 तथा 72
3. ✖ 60 तथा 84
4. ✔ 48 तथा 80

Question Number : 83 Question Id : 54592751189 Question Type : MCQ Option Shuffling : Yes

Correct Marks : 1 Wrong Marks : 0.25

What is the value of $\frac{1}{11 \times 11 \times 11} + \frac{1}{9 \times 9 \times 9} + 3 \times \frac{1}{11} \times \frac{1}{9} \left(\frac{20}{99} \right)$?

Options :

1. ✖ 39600
2. ✖ 11979
3. ✔ 8000/970299
4. ✖ 400/9801

Question Number : 83 Question Id : 54592751189 Question Type : MCQ Option Shuffling : Yes
Correct Marks : 1 Wrong Marks : 0.25

$$\frac{1}{11 \times 11 \times 11} + \frac{1}{9 \times 9 \times 9} + 3 \times \frac{1}{11} \times \frac{1}{9} \left(\frac{20}{99} \right) \text{ का मान क्या है?}$$

Options :

1. ✖ 39600
2. ✖ 11979
3. ✔ 8000/970299
4. ✖ 400/9801

Question Number : 84 Question Id : 54592751190 Question Type : MCQ Option Shuffling : Yes
Correct Marks : 1 Wrong Marks : 0.25

$$\text{What is the value of } \left(\frac{1}{8} + \frac{1}{16} \right)^2 - \left(\frac{1}{8} - \frac{1}{16} \right)^2?$$

Options :

1. ✖ 1
2. ✔ 1/32
3. ✖ 1/16
4. ✖ 1/128

Question Number : 84 Question Id : 54592751190 Question Type : MCQ Option Shuffling : Yes
Correct Marks : 1 Wrong Marks : 0.25

$$\left(\frac{1}{8} + \frac{1}{16} \right)^2 - \left(\frac{1}{8} - \frac{1}{16} \right)^2 \text{ का मान क्या है?}$$

Options :

1. ✖ 1
2. ✔ 1/32
3. ✖ 1/16
4. ✖ 1/128

Question Number : 85 Question Id : 54592751191 Question Type : MCQ Option Shuffling : Yes
Correct Marks : 1 Wrong Marks : 0.25

If two numbers are in the ratio of 1 : 3 and their Highest Common Factor is 12, then what can be these two numbers?

Options :

1. ✖ 10 and 30
2. ✖ 20 and 60
3. ✔ 12 and 36
4. ✖ 10 and 48

Question Number : 85 Question Id : 54592751191 Question Type : MCQ Option Shuffling : Yes

Correct Marks : 1 Wrong Marks : 0.25

यदि दो संख्याएँ 1 : 3 के अनुपात में हैं तथा उनका महत्तम समापवर्तक 12 है, तो यह दो संख्याएँ क्या हो सकती हैं?

Options :

1. ✖ 10 तथा 30
2. ✖ 20 तथा 60
3. ✔ 12 तथा 36
4. ✖ 10 तथा 48

Question Number : 86 Question Id : 54592751192 Question Type : MCQ Option Shuffling : Yes

Correct Marks : 1 Wrong Marks : 0.25

The ratio of two numbers is 4 : 5 and their Highest Common Factor is 5. What will be the Least Common Multiple of these two numbers?

Options :

1. ✖ 80
2. ✔ 100
3. ✖ 70
4. ✖ 60

Question Number : 86 Question Id : 54592751192 Question Type : MCQ Option Shuffling : Yes

Correct Marks : 1 Wrong Marks : 0.25

दो संख्याओं का अनुपात 4 : 5 है तथा उनका महत्तम समापवर्तक 5 है । इन दो संख्याओं का लघुत्तम समापवर्त्य क्या होगा?

Options :

1. ✖ 80
2. ✔ 100
3. ✖ 70
4. ✖ 60

Question Number : 87 Question Id : 54592751193 Question Type : MCQ Option Shuffling : Yes
Correct Marks : 1 Wrong Marks : 0.25

What is the value of $\left(1 - \frac{1}{3}\right)\left(1 - \frac{1}{4}\right)\left(1 - \frac{1}{5}\right) \dots \left(1 - \frac{1}{99}\right)\left(1 - \frac{1}{100}\right)$?

Options :

1. ✔ 1/50
2. ✖ 1/49
3. ✖ 1/55
4. ✖ 1/40

Question Number : 87 Question Id : 54592751193 Question Type : MCQ Option Shuffling : Yes
Correct Marks : 1 Wrong Marks : 0.25

$\left(1 - \frac{1}{3}\right)\left(1 - \frac{1}{4}\right)\left(1 - \frac{1}{5}\right) \dots \left(1 - \frac{1}{99}\right)\left(1 - \frac{1}{100}\right)$ का मान क्या है?

Options :

1. ✔ 1/50
2. ✖ 1/49
3. ✖ 1/55
4. ✖ 1/40

Question Number : 88 Question Id : 54592751194 Question Type : MCQ Option Shuffling : Yes
Correct Marks : 1 Wrong Marks : 0.25

What is the value of $\sqrt{\frac{(0.064 - 0.008)(0.16 - 0.04)}{(0.16 + 0.08 + 0.04)(0.4 + 0.2)^3}}$?

Options :

1. ✓ 1/3

2. ✗ 1/5

3. ✗ 1/2

4. ✗ 1/6

Question Number : 88 Question Id : 54592751194 Question Type : MCQ Option Shuffling : Yes

Correct Marks : 1 Wrong Marks : 0.25

$\sqrt{\frac{(0.064 - 0.008)(0.16 - 0.04)}{(0.16 + 0.08 + 0.04)(0.4 + 0.2)^3}}$ का मान क्या है?

Options :

1. ✓ 1/3

2. ✗ 1/5

3. ✗ 1/2

4. ✗ 1/6

Question Number : 89 Question Id : 54592751195 Question Type : MCQ Option Shuffling : Yes

Correct Marks : 1 Wrong Marks : 0.25

What is the simplified value of $1 + \frac{1}{1 + \frac{1}{1 + \frac{1}{1 + \frac{1}{2}}}}$?

Options :

1. ✓ 13/8

2. ✗ 13/5

3. ✗ 15/8

4. ✗ 15/7

Question Number : 89 Question Id : 54592751195 Question Type : MCQ Option Shuffling : Yes

Correct Marks : 1 Wrong Marks : 0.25

$1 + \frac{1}{1 + \frac{1}{1 + \frac{1}{1 + \frac{1}{2}}}}$ का सरलीकृत मान क्या है?

Options :

1. ✓ 13/8

2. ✗ 13/5

3. ✗ 15/8

4. ✗ 15/7

Question Number : 90 Question Id : 54592751196 Question Type : MCQ Option Shuffling : Yes

Correct Marks : 1 Wrong Marks : 0.25

What is the value of $\frac{(0.25)^3}{1.075} + \{0.75 + (0.75)^2 + 1\}$?

Options :

1. ✗ 2.475

2. ✗ 2.5

3. ✓ 2.327

4. ✗ 3.5

Question Number : 90 Question Id : 54592751196 Question Type : MCQ Option Shuffling : Yes

Correct Marks : 1 Wrong Marks : 0.25

$\frac{(0.25)^3}{1.075} + \{0.75 + (0.75)^2 + 1\}$ का मान क्या है?

Options :

1. ✗ 2.475

2. ✗ 2.5

3. ✓ 2.327

4. ✗ 3.5

Question Number : 91 Question Id : 54592751197 Question Type : MCQ Option Shuffling : Yes

Correct Marks : 1 Wrong Marks : 0.25

Average distance covered by a man for Monday and Tuesday is 22 km and for Tuesday and Wednesday the average distance is 17 km. If the average distance covered by him in 3 days is 16 km, then how much distance did he cover on Tuesday?

Options :

1. ✓ 30 km
2. ✗ 14 km
3. ✗ 28 km
4. ✗ 16 km

Question Number : 91 Question Id : 54592751197 Question Type : MCQ Option Shuffling : Yes

Correct Marks : 1 Wrong Marks : 0.25

सोमवार और मंगलवार को एक आदमी द्वारा तय की गई औसत दूरी 22 कि.मी. है तथा मंगलवार और बुधवार को तय की गई औसत दूरी 17 कि.मी. है। यदि 3 दिन में उसके द्वारा तय की गई औसत दूरी 16 कि.मी. है, तो उसने मंगलवार को कितनी दूरी तय की है?

Options :

1. ✓ 30 कि.मी.
2. ✗ 14 कि.मी.
3. ✗ 28 कि.मी.
4. ✗ 16 कि.मी.

Question Number : 92 Question Id : 54592751198 Question Type : MCQ Option Shuffling : Yes

Correct Marks : 1 Wrong Marks : 0.25

There are 13 consecutive odd numbers. If the average of first 7 numbers is X, then what is the average of last 6 numbers?

Options :

1. ✓ $X + 13$

2. ✖ $X + 10$

3. ✖ $X + 7$

4. ✖ $X + 12$

Question Number : 92 Question Id : 54592751198 Question Type : MCQ Option Shuffling : Yes
Correct Marks : 1 Wrong Marks : 0.25

13 क्रमागत विषम संख्याएँ हैं। यदि पहली 7 संख्याओं का औसत X है, तो अंतिम 6 संख्याओं का औसत क्या है?

Options :

1. ✔ $X + 13$

2. ✖ $X + 10$

3. ✖ $X + 7$

4. ✖ $X + 12$

Question Number : 93 Question Id : 54592751199 Question Type : MCQ Option Shuffling : Yes
Correct Marks : 1 Wrong Marks : 0.25

In 21 consecutive natural numbers, the average of last 9 numbers is 37. What is the average of all 21 numbers?

Options :

1. ✖ 34

2. ✔ 31

3. ✖ 35

4. ✖ 39

Question Number : 93 Question Id : 54592751199 Question Type : MCQ Option Shuffling : Yes
Correct Marks : 1 Wrong Marks : 0.25

21 क्रमागत प्राकृतिक संख्याओं में, अंतिम 9 संख्याओं का औसत 37 है। सभी 21 संख्याओं का औसत क्या है?

Options :

1. ✖ 34

2. ✓ 31

3. ✗ 35

4. ✗ 39

Question Number : 94 Question Id : 54592751200 Question Type : MCQ Option Shuffling : Yes
Correct Marks : 1 Wrong Marks : 0.25

If 40% of A is added to 40% of B, then the result will be same as 60% of B. A is what percentage of B?

Options :

1. ✓ 50 percent

2. ✗ 75 percent

3. ✗ 60 percent

4. ✗ 70 percent

Question Number : 94 Question Id : 54592751200 Question Type : MCQ Option Shuffling : Yes
Correct Marks : 1 Wrong Marks : 0.25

यदि A का 40%, B के 40% मे जोड़ दिया गया है तो परिणाम B के 60% के समान होगा। A, B का कितना प्रतिशत है?

Options :

1. ✓ 50 प्रतिशत

2. ✗ 75 प्रतिशत

3. ✗ 60 प्रतिशत

4. ✗ 70 प्रतिशत

Question Number : 95 Question Id : 54592751201 Question Type : MCQ Option Shuffling : Yes
Correct Marks : 1 Wrong Marks : 0.25

If price of sugar is decreased by 80%, then a consumer can purchase 160 kg more sugar for Rs 4000. What is the reduced price of sugar?

Options :

1. ✓ Rs 20/kg

2. ✗ Rs 25/kg

3. ✗ Rs 80/kg

4. ✗ Rs 60/kg

Question Number : 95 Question Id : 54592751201 Question Type : MCQ Option Shuffling : Yes

Correct Marks : 1 Wrong Marks : 0.25

यदि चीनी के मूल्य को 80% से कम कर दिया जाता है, तो एक उपभोक्ता 4000 रुपये में 160 कि.ग्रा. अधिक चीनी खरीद सकता है। चीनी का घटा हुआ मूल्य क्या है?

Options :

1. ✓ 20 रुपये/ कि.ग्रा.

2. ✗ 25 रुपये/ कि.ग्रा.

3. ✗ 80 रुपये/ कि.ग्रा.

4. ✗ 60 रुपये /कि.ग्रा.

Question Number : 96 Question Id : 54592751202 Question Type : MCQ Option Shuffling : Yes

Correct Marks : 1 Wrong Marks : 0.25

A bag contains red, blue and yellow balls in the ratio of 5 : 7 : 12. Red balls are increased by 20% and Blue balls are also increased by 20%. By how much percent should yellow balls be increased/decreased so that the total number of balls increases by 10%?

Options :

1. ✗ 10% Decrease

2. ✗ 12.5% Decrease

3. ✗ 5% Increase

4. ✓ No change

Question Number : 96 Question Id : 54592751202 Question Type : MCQ Option Shuffling : Yes

Correct Marks : 1 Wrong Marks : 0.25

एक थैले में लाल, नीले तथा पीले रंग की गेंदे 5 : 7 : 12 के अनुपात में हैं। लाल गेंदों को 20% से बढ़ा दिया गया है तथा नीली गेंदों को भी 20% से बढ़ा दिया गया है। पीले रंग की गेंदों को कितने प्रतिशत से बढ़ाया/घटाया जाना चाहिए ताकि गेंदों की कुल संख्या 10% से बढ़ जाए?

Options :

1. ✖ 10% कमी
2. ✖ 12.5% कमी
3. ✖ 5% वृद्धि
4. ✔ कोई परिवर्तन नहीं

Question Number : 97 Question Id : 54592751203 Question Type : MCQ Option Shuffling : Yes

Correct Marks : 1 Wrong Marks : 0.25

If an article is sold at a loss of 20%, then what is the respective ratio of cost price and selling price of the article?

Options :

1. ✔ 5 : 4
2. ✖ 3 : 4
3. ✖ 4 : 5
4. ✖ 4 : 3

Question Number : 97 Question Id : 54592751203 Question Type : MCQ Option Shuffling : Yes

Correct Marks : 1 Wrong Marks : 0.25

यदि एक वस्तु को 20% की हानि पर बेचा जाता है, तो वस्तु के क्रय मूल्य तथा विक्रय मूल्य का क्रमशः अनुपात क्या है?

Options :

1. ✔ 5 : 4
2. ✖ 3 : 4

3. ✖ 4 : 5

4. ✖ 4 : 3

Question Number : 98 Question Id : 54592751204 Question Type : MCQ Option Shuffling : Yes

Correct Marks : 1 Wrong Marks : 0.25

A person sold a pen at 5% profit. If the selling price of pen is increased by Rs 9 and cost price is decreased by 10%, then he would have earned a profit of 20%. What is the initial cost price of the pen?

Options :

1. ✖ Rs. 450

2. ✖ Rs. 120

3. ✖ Rs. 150

4. ✔ Rs. 300

Question Number : 98 Question Id : 54592751204 Question Type : MCQ Option Shuffling : Yes

Correct Marks : 1 Wrong Marks : 0.25

एक व्यक्ति ने एक पेन को 5% के लाभ पर बेचा। यदि पेन का विक्रय मूल्य 9 रुपये से बढ़ाया गया है तथा क्रय मूल्य 10% से कम किया गया है, तो उसे 20% का लाभ होता। पेन का आरंभिक क्रय मूल्य क्या है?

Options :

1. ✖ 450 रुपये

2. ✖ 120 रुपये

3. ✖ 150 रुपये

4. ✔ 300 रुपये

Question Number : 99 Question Id : 54592751205 Question Type : MCQ Option Shuffling : Yes

Correct Marks : 1 Wrong Marks : 0.25

A person bought 50 pens at the rate of Rs 50 per pen. He sells 40 pens at a loss of 5%. If profit of 10% is earned on the all pens together, then what will be the gain percentage on the remaining 10 pens?

Options :

1. ✖ 15 percent
2. ✖ 40 percent
3. ✖ 50 percent
4. ✔ 70 percent

Question Number : 99 Question Id : 54592751205 Question Type : MCQ Option Shuffling : Yes

Correct Marks : 1 Wrong Marks : 0.25

एक व्यक्ति ने 50 पेन 50 रुपये प्रति पेन की दर से खरीदे। वह 40 पेन 5% की हानि पर बेचता है। यदि सभी पेन पर मिलाकर 10% का लाभ कमाया गया है, तो शेष 10 पेन पर लाभ प्रतिशत क्या होगा?

Options :

1. ✖ 15 प्रतिशत
2. ✖ 40 प्रतिशत
3. ✖ 50 प्रतिशत
4. ✔ 70 प्रतिशत

Question Number : 100 Question Id : 54592751206 Question Type : MCQ Option Shuffling : Yes

Correct Marks : 1 Wrong Marks : 0.25

If $3a = 2b = 12c$, then what is $a : b : c$?

Options :

1. ✔ 4 : 6 : 1
2. ✖ 1 : 2 : 3
3. ✖ 3 : 4 : 6
4. ✖ 6 : 5 : 1

Question Number : 100 Question Id : 54592751206 Question Type : MCQ Option Shuffling : Yes
Correct Marks : 1 Wrong Marks : 0.25

यदि $3a = 2b = 12c$ है, तो $a : b : c$ क्या है?

Options :

1. ✓ 4 : 6 : 1

2. ✗ 1 : 2 : 3

3. ✗ 3 : 4 : 6

4. ✗ 6 : 5 : 1

Arithmetic Ability2

Group Number :	6
Group Id :	5459272536
Group Maximum Duration :	0
Group Minimum Duration :	0
Show Attended Group? :	No
Edit Attended Group? :	No
Break time:	0
Group Marks:	20
Is this Group for Examiner?:	No
Revisit allowed for group Instructions? :	Yes
Maximum Instruction Time:	0
Minimum Instruction Time:	0

Arithmetic Ability2

Section Id :	5459272536
Section Number :	1
Section type :	Online
Mandatory or Optional:	Mandatory
Number of Questions:	20
Number of Questions to be attempted:	20
Section Marks:	20

Sub-Section Number:	1
Sub-Section Id:	5459273042
Question Shuffling Allowed :	Yes

Question Number : 101 Question Id : 54592751207 Question Type : MCQ Option Shuffling : Yes
Correct Marks : 1 Wrong Marks : 0.25

A sum of money is divided among three friends A, B and C in the ratio of 9 : 4 : 7 respectively. If C got Rs 360 less than the sum of A and B, then how much money did A receive?

Options :

1. ✓ Rs. 540
2. ✗ Rs. 420
3. ✗ Rs. 480
4. ✗ Rs. 600

Question Number : 101 Question Id : 54592751207 Question Type : MCQ Option Shuffling : Yes

Correct Marks : 1 Wrong Marks : 0.25

एक राशि को क्रमशः तीन दोस्तों A, B और C के बीच 9: 4: 7 के अनुपात में विभाजित किया जाता है। यदि C को A तथा B के योग से 360 रुपये कम मिलते हैं, तो A कितने रुपये प्राप्त करता है?

Options :

1. ✓ 540 रुपये
2. ✗ 420 रुपये
3. ✗ 480 रुपये
4. ✗ 600 रुपये

Question Number : 102 Question Id : 54592751208 Question Type : MCQ Option Shuffling : Yes

Correct Marks : 1 Wrong Marks : 0.25

The ratio of incomes of P and R is 4 : 5 respectively. The sum of their expenditure is Rs 12000 and savings of P is same as that of the expenditure of R. What is the sum of their savings?

Options :

1. ✗ Rs. 12000
2. ✗ Rs. 10000
3. ✓ Rs. 15000

4. * Rs. 16000

Question Number : 102 Question Id : 54592751208 Question Type : MCQ Option Shuffling : Yes
Correct Marks : 1 Wrong Marks : 0.25

P तथा R की आय का अनुपात क्रमशः 4 : 5 है। उनके व्यय का योग 12000 रुपये है तथा P की बचत, R के व्यय के बराबर है। उनकी बचत का योग क्या है?

Options :

1. * 12000 रुपये
2. * 10000 रुपये
3. ✓ 15000 रुपये
4. * 16000 रुपये

Question Number : 103 Question Id : 54592751209 Question Type : MCQ Option Shuffling : Yes
Correct Marks : 1 Wrong Marks : 0.25

In how many years will a sum of Rs. 8000 give compound interest (compounding annually) of Rs 7680 at the rate of 40% per annum?

Options :

1. ✓ 2 years
2. * 3 years
3. * 4 years
4. * 1 year

Question Number : 103 Question Id : 54592751209 Question Type : MCQ Option Shuffling : Yes
Correct Marks : 1 Wrong Marks : 0.25

एक 8000 रुपये की राशि 40% प्रतिवर्ष की दर से कितने वर्षों में 7680 रुपये का चक्रवृद्धि ब्याज (वार्षिक संयोजन पर) देगी?

Options :

1. ✓ 2 वर्ष

2. * 3 वर्ष

3. * 4 वर्ष

4. * 1 वर्ष

Question Number : 104 Question Id : 54592751210 Question Type : MCQ Option Shuffling : Yes
Correct Marks : 1 Wrong Marks : 0.25

The compound interest on a certain sum for 2 years at the rate of 10% per annum is Rs. 1260. What is the simple interest on the same sum for 3 years?

Options :

1. * Rs. 2000

2. * Rs. 1860

3. ✓ Rs. 1800

4. * Rs. 1820

Question Number : 104 Question Id : 54592751210 Question Type : MCQ Option Shuffling : Yes
Correct Marks : 1 Wrong Marks : 0.25

एक निश्चित राशि पर 10% प्रतिवर्ष की दर 2 वर्ष के लिए चक्रवृद्धि ब्याज 1260 रुपये है। समान राशि पर 3 वर्ष के लिए साधारण ब्याज क्या है?

Options :

1. * 2000 रुपये

2. * 1860 रुपये

3. ✓ 1800 रुपये

4. * 1820 रुपये

Question Number : 105 Question Id : 54592751211 Question Type : MCQ Option Shuffling : Yes
Correct Marks : 1 Wrong Marks : 0.25

One third of a certain sum is kept at 21% rate of interest. $\frac{3}{5}$ of the remaining sum is kept at 20% rate of interest. The remaining sum is kept at 15 % rate of interest. If the simple interest on the total sum for 2 years is Rs. 152, then what is the sum?

Options :

1. ✓ Rs. 400
2. ✗ Rs. 460
3. ✗ Rs. 380
4. ✗ Rs. 420

Question Number : 105 Question Id : 54592751211 Question Type : MCQ Option Shuffling : Yes

Correct Marks : 1 Wrong Marks : 0.25

एक निश्चित राशि का एक - तिहाई 21% ब्याज दर पर रखा जाता है। शेष राशि का $\frac{3}{5}$, 20% ब्याज दर पर रखा गया है। शेष राशि को 15% ब्याज दर पर रखा गया है। यदि 2 वर्ष के लिए कुल राशि पर साधारण ब्याज 152 रुपये है, तो राशि क्या है?

Options :

1. ✓ 400 रुपये
2. ✗ 460 रुपये
3. ✗ 380 रुपये
4. ✗ 420 रुपये

Question Number : 106 Question Id : 54592751212 Question Type : MCQ Option Shuffling : Yes

Correct Marks : 1 Wrong Marks : 0.25

Mohit covers a distance of 45 km in 5 hours. What is the speed of Mohit?

Options :

1. ✗ 45 metre/minute
2. ✗ 25 metre/minute

3. ✖ 120 metre/minute

4. ✔ 150 metre/minute

Question Number : 106 Question Id : 54592751212 Question Type : MCQ Option Shuffling : Yes

Correct Marks : 1 Wrong Marks : 0.25

मोहित 45 कि.मी. की एक दूरी को 5 घंटे में तय करता है। मोहित की गति क्या है?

Options :

1. ✖ 45 मीटर/मिनट

2. ✖ 25 मीटर/मिनट

3. ✖ 120 मीटर/मिनट

4. ✔ 150 मीटर/मिनट

Question Number : 107 Question Id : 54592751213 Question Type : MCQ Option Shuffling : Yes

Correct Marks : 1 Wrong Marks : 0.25

A boat covers 30 km upstream and 50 km downstream distance in 5 hours, while it covers 60 km upstream and 50 km downstream distance in 8 hours. What is the speed of the current?

Options :

1. ✔ 7.5 km/hr

2. ✖ 8 km/hr

3. ✖ 8.5km/hr

4. ✖ 7 km/hr

Question Number : 107 Question Id : 54592751213 Question Type : MCQ Option Shuffling : Yes

Correct Marks : 1 Wrong Marks : 0.25

एक नाव 30 कि.मी. धारा के प्रतिकूल तथा 50 कि.मी. धारा के अनुकूल दूरी 5 घंटे में तय करती है, जबकि यह 60 कि.मी. धारा के प्रतिकूल तथा 50 कि.मी. धारा के अनुकूल दूरी 8 घंटे में तय करती है। धारा की गति क्या है?

Options :

1. ✓ 7.5 कि.मी./घंटा
2. ✗ 8 कि.मी./घंटा
3. ✗ 8.5 कि.मी./घंटा
4. ✗ 7 कि.मी./घंटा

Question Number : 108 Question Id : 54592751214 Question Type : MCQ Option Shuffling : Yes
Correct Marks : 1 Wrong Marks : 0.25

A man rows to a place 60 km away and comes back in 10 hours. He can row 40 km downstream or 20 km upstream in same time. What is the speed of the stream?

Options :

1. ✓ 4.5 km/hr
2. ✗ 5 km/hr
3. ✗ 3.5 km/hr
4. ✗ 6 km/hr

Question Number : 108 Question Id : 54592751214 Question Type : MCQ Option Shuffling : Yes
Correct Marks : 1 Wrong Marks : 0.25

एक व्यक्ति नाव द्वारा 10 घंटे में एक 60 कि.मी. दूर स्थान पर जाता है तथा वापस आता है। वह धारा के अनुकूल 40 कि.मी. अथवा धारा के प्रतिकूल 20 कि.मी. समान समय में जा सकता है। धारा की गति क्या है?

Options :

1. ✓ 4.5 कि.मी./घंटा

2. * 5 कि.मी./घंटा

3. * 3.5 कि.मी./घंटा

4. * 6 कि.मी./घंटा

Question Number : 109 Question Id : 54592751215 Question Type : MCQ Option Shuffling : Yes

Correct Marks : 1 Wrong Marks : 0.25

P1, P2 and P3 alone can complete a work in 10, 12 and 15 days respectively. In how many days will they together complete the same work?

Options :

1. * 5 days

2. * 6 days

3. ✓ 4 days

4. * 3 days

Question Number : 109 Question Id : 54592751215 Question Type : MCQ Option Shuffling : Yes

Correct Marks : 1 Wrong Marks : 0.25

P1, P2 तथा P3 अकेले एक कार्य को क्रमशः 10, 12 तथा 15 दिनों में पूरा कर सकते हैं। वह साथ मिलकर उस कार्य को कितने दिन में पूरा करेंगे?

Options :

1. * 5 दिन

2. * 6 दिन

3. ✓ 4 दिन

4. * 3 दिन

Question Number : 110 Question Id : 54592751216 Question Type : MCQ Option Shuffling : Yes

Correct Marks : 1 Wrong Marks : 0.25

Two pipes P1 and P2 can fill an empty tank in 4 hours and 5 hours respectively. Pipe P3 alone can empty the completely filled tank in 6 hours. First both pipes P1 and P2 are opened and after 2 hours pipe P3 is also opened. In how much time tank will be completely filled?

Options :

1. * 3 hours
2. * $38/17$ hours
3. ✓ $40/17$ hours
4. * $26/9$ hours

Question Number : 110 Question Id : 54592751216 Question Type : MCQ Option Shuffling : Yes

Correct Marks : 1 Wrong Marks : 0.25

दो पाइप P1 तथा P2 एक खाली टैंक को क्रमशः 4 घंटे तथा 5 घंटे में भर सकते हैं। पाइप P3 अकेले एक भरे हुए टैंक को 6 घंटे में खाली कर सकती है। पहले दोनों पाइप P1 तथा P2 को खोला जाता है। तथा 2 घंटे बाद पाइप P3 को खोला जाता है। टैंक कितने समय में भर जायेगा?

Options :

1. * 3 घंटे
2. * $38/17$ घंटे
3. ✓ $40/17$ घंटे
4. * $26/9$ घंटे

Question Number : 111 Question Id : 54592751217 Question Type : MCQ Option Shuffling : Yes

Correct Marks : 1 Wrong Marks : 0.25

X1 is twice as good a workman as X2 and X2 is thrice as good a workman as X3. If X1, X2 and X3 together can finish a work in 3 days, then X1 alone can complete the same work in how many days?

Options :

1. ✖ 6 days
2. ✔ 5 days
3. ✖ 4 days
4. ✖ $7/2$ days

Question Number : 111 Question Id : 54592751217 Question Type : MCQ Option Shuffling : Yes

Correct Marks : 1 Wrong Marks : 0.25

X1, X2 से दोगुना कार्यकुशल है तथा X2, X3 से तीन गुना कार्यकुशल है। यदि X1, X2 तथा X3 साथ मिलकर एक कार्य को 3 दिनों में पूरा कर सकते हैं, तो X1 अकेला उसी कार्य को कितने दिनों में पूरा कर सकता है?

Options :

1. ✖ 6 दिन
2. ✔ 5 दिन
3. ✖ 4 दिन
4. ✖ $7/2$ दिन

Question Number : 112 Question Id : 54592751218 Question Type : MCQ Option Shuffling : Yes

Correct Marks : 1 Wrong Marks : 0.25

If the length of the diagonal of a square is 12 cm, then what is the area of the square?

Options :

1. ✔ 72 cm^2

2. ✘ 144 cm^2

3. ✘ $72\sqrt{2} \text{ cm}^2$

4. ✘ $144\sqrt{2} \text{ cm}^2$

Question Number : 112 Question Id : 54592751218 Question Type : MCQ Option Shuffling : Yes

Correct Marks : 1 Wrong Marks : 0.25

यदि एक वर्ग के विकर्ण की लंबाई 12 से.मी. है, तो वर्ग का क्षेत्रफल क्या है?

Options :

1. ✔ 72 से.मी.^2

2. ✘ 144 से.मी.^2

3. ✘ $72\sqrt{2} \text{ से.मी.}^2$

4. ✘ $144\sqrt{2} \text{ से.मी.}^2$

Question Number : 113 Question Id : 54592751219 Question Type : MCQ Option Shuffling : Yes

Correct Marks : 1 Wrong Marks : 0.25

The radius of the right circular cylinder is twice of its height. If the height of the cylinder is 3.5 cm, then what is the volume of cylinder?

Options :

1. ✖ 1078 cm³

2. ✔ 539 cm³

3. ✖ 808.5 cm³

4. ✖ 679 cm³

Question Number : 113 Question Id : 54592751219 Question Type : MCQ Option Shuffling : Yes
Correct Marks : 1 Wrong Marks : 0.25

एक लम्बे गोलाकार बेलन की त्रिज्या उसकी ऊँचाई से दोगुनी है। यदि बेलन की ऊँचाई 3.5 से.मी. है, तो बेलन का आयतन क्या है?

Options :

1. ✖ 1078 से.मी.³

2. ✔ 539 से.मी.³

3. ✖ 808.5 से.मी.³

4. ✖ 679 से.मी.³

Question Number : 114 Question Id : 54592751220 Question Type : MCQ Option Shuffling : Yes
Correct Marks : 1 Wrong Marks : 0.25

Three cubes of metal whose sides are 3 cm, 4 cm and 5 cm respectively are melted and converted into a single cube. If there is no loss of metal in this process, then what is the length of the side of the new cube?

Options :

1. * 8 cm
2. * $6\sqrt{2}$ cm
3. ✓ 6 cm
4. * $8\sqrt{2}$ cm

Question Number : 114 Question Id : 54592751220 Question Type : MCQ Option Shuffling : Yes

Correct Marks : 1 Wrong Marks : 0.25

धातु के तीन घन जिनकी भुजाएँ क्रमशः 3 से.मी., 4 से.मी. तथा 5 से.मी. हैं को पिघलाया गया है तथा एक एकल घन में परिवर्तित किया गया है। यदि इस प्रक्रिया में धातु का कोई नुकसान नहीं हुआ है, तो नए घन की भुजा की लंबाई क्या है?

Options :

1. * 8 से.मी.
2. * $6\sqrt{2}$ से.मी.
3. ✓ 6 से.मी.
4. * $8\sqrt{2}$ से.मी.

Question Number : 115 Question Id : 54592751221 Question Type : MCQ Option Shuffling : Yes

Correct Marks : 1 Wrong Marks : 0.25

The table given below shows the number of books published by a publication house in 5 consecutive years.

Year	Number of Books
Y1	30
Y2	42
Y3	46
Y4	40
Y5	50

What is the percentage increase in the number of books published from Y1 to Y5?

Options :

1. ✓ 66.66 percent
2. ✗ 33.33 percent
3. ✗ 50 percent
4. ✗ 75 percent

Question Number : 115 Question Id : 54592751221 Question Type : MCQ Option Shuffling : Yes
Correct Marks : 1 Wrong Marks : 0.25

नीचे दी गयी तालिका एक प्रकाशन द्वारा 5 क्रमागत वर्षों में प्रकाशित किताबों की संख्या को दर्शाती है।

वर्ष	किताबों की संख्या
Y1	30
Y2	42
Y3	46
Y4	40
Y5	50

Y1 से Y5 तक प्रकाशित किताबों की संख्या में कितने प्रतिशत की वृद्धि हुई है?

Options :

1. ✓ 66.66 प्रतिशत
2. ✗ 33.33 प्रतिशत
3. ✗ 50 प्रतिशत
4. ✗ 75 प्रतिशत

Question Number : 116 Question Id : 54592751222 Question Type : MCQ Option Shuffling : Yes
Correct Marks : 1 Wrong Marks : 0.25

The table given below shows the number of marriages attended by a family in different months of a year.

Months	Number of marriages
M1	24
M2	28
M3	22
M4	23
M5	27

The number of marriages attended in month M1 is what percentage of number of marriages attended in month M5?

Options :

1. ✖ 82.88 percent
2. ✖ 84.88 percent
3. ✖ 86.88 percent
4. ✔ 88.88 percent

Question Number : 116 Question Id : 54592751222 Question Type : MCQ Option Shuffling : Yes
Correct Marks : 1 Wrong Marks : 0.25

नीचे दी गयी तालिका एक वर्ष के विभिन्न महीनों में एक परिवार द्वारा भाग लिए गए विवाहों की संख्या को दर्शाती है।

महिना	विवाहों की संख्या
Y1	24
Y2	28
Y3	22
Y4	23
Y5	27

महिना M1 में भाग लिए गए विवाहों की संख्या महिना M5 में भाग लिए गए विवाहों की संख्या की कितनी प्रतिशत है?

Options :

1. ✘ 82.88 प्रतिशत
2. ✘ 84.88 प्रतिशत
3. ✘ 86.88 प्रतिशत
4. ✔ 88.88 प्रतिशत

Question Number : 117 Question Id : 54592751223 Question Type : MCQ Option Shuffling : Yes
Correct Marks : 1 Wrong Marks : 0.25

The table given below shows the number of utensils sold by the shopkeeper on different days of a week.

Days	Number of utensils
D1	25
D2	30
D3	36
D4	40
D5	44

What is the average number of utensils sold by the shopkeeper per day?

Options :

1. ✓ 35

2. ✗ 37

3. ✗ 38

4. ✗ 40

Question Number : 117 Question Id : 54592751223 Question Type : MCQ Option Shuffling : Yes

Correct Marks : 1 Wrong Marks : 0.25

नीचे दी गयी तालिका एक सप्ताह के विभिन्न दिनों पर दुकानदार द्वारा बेचे गये बर्तनों की संख्या को दर्शाती है।

दिन	बर्तनों की संख्या
D1	25
D2	30
D3	36
D4	40
D5	44

प्रति दिन दुकानदार द्वारा बेचे गये बर्तनों की औसत संख्या क्या है?

Options :

1. ✓ 35

2. ✗ 37

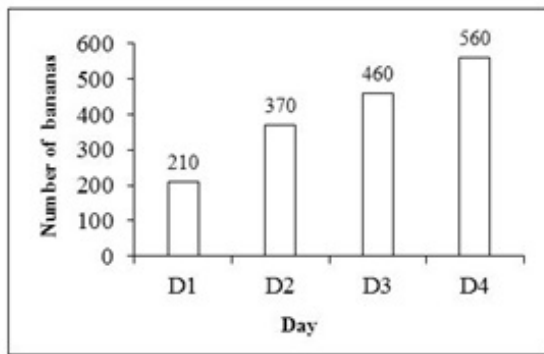
3. ✗ 38

4. ✗ 40

Question Number : 118 Question Id : 54592751224 Question Type : MCQ Option Shuffling : Yes

Correct Marks : 1 Wrong Marks : 0.25

The bar graph given below shows the number of bananas sold by a seller on different days of a week.



What are the total number of bananas sold by the seller in all the days together?

Options :

1. ✗ 400

2. ✗ 800

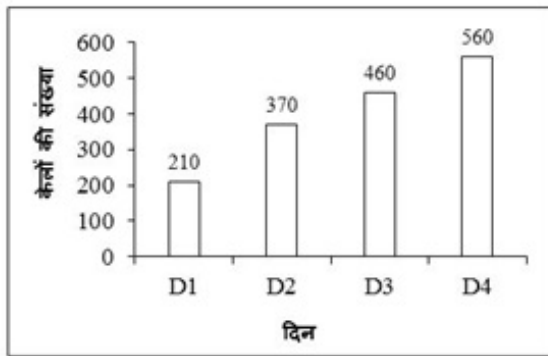
3. ✗ 1200

4. ✓ 1600

Question Number : 118 Question Id : 54592751224 Question Type : MCQ Option Shuffling : Yes

Correct Marks : 1 Wrong Marks : 0.25

नीचे दिया गया दण्ड चित्र एक सप्ताह के विभिन्न दिनों में एक विक्रेता द्वारा बेचे गए केलों की संख्या को दर्शाता है।



सभी दिनों में मिलाकर विक्रेता द्वारा बेचे गए केलों की कुल संख्या क्या है?

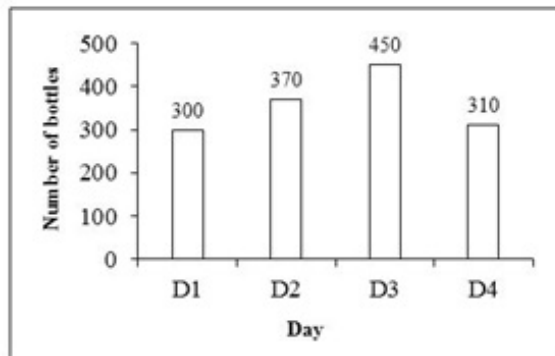
Options :

1. ✘ 400
2. ✘ 800
3. ✘ 1200
4. ✔ 1600

Question Number : 119 Question Id : 54592751225 Question Type : MCQ Option Shuffling : Yes

Correct Marks : 1 Wrong Marks : 0.25

The bar graph given below shows the number of bottles manufactured by a company on different days of a week.



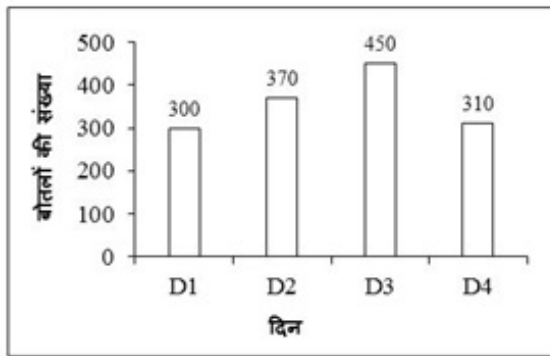
What is the average number of bottles manufactured by the company per day?

Options :

1. ✖ 351.5
2. ✖ 354.15
3. ✔ 357.5
4. ✖ 360.5

Question Number : 119 Question Id : 54592751225 Question Type : MCQ Option Shuffling : Yes
Correct Marks : 1 Wrong Marks : 0.25

नीचे दिया गया दण्ड चित्र एक सप्ताह के विभिन्न दिनों में एक कंपनी द्वारा निर्मित की गयी बोतलों की संख्या को दर्शाता है।



कंपनी द्वारा प्रति दिन निर्मित की गयी बोतलों की औसत संख्या क्या है?

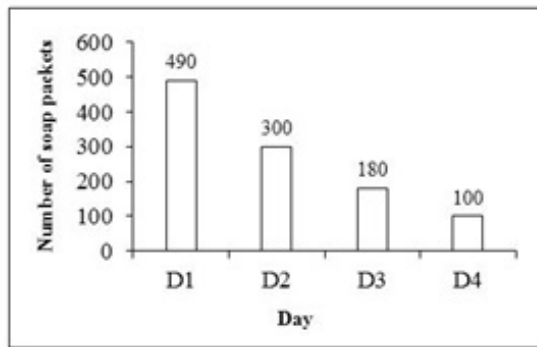
Options :

1. ✘ 351.5
2. ✘ 354.15
3. ✔ 357.5
4. ✘ 360.5

Question Number : 120 Question Id : 54592751226 Question Type : MCQ Option Shuffling : Yes

Correct Marks : 1 Wrong Marks : 0.25

The bar graph given below shows the number of soap packets manufactured by a company on different days of a week.



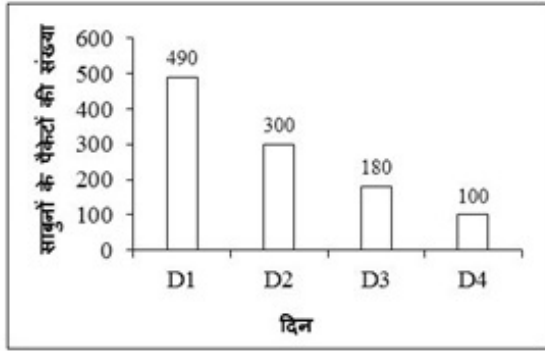
What is the percentage decrease in the number of soap packets manufactured by company on day 4 as compared to day 1?

Options :

1. ✓ 79.59 percent
2. ✗ 81.51 percent
3. ✗ 83.59 percent
4. ✗ 85.59 percent

Question Number : 120 Question Id : 54592751226 Question Type : MCQ Option Shuffling : Yes
Correct Marks : 1 Wrong Marks : 0.25

नीचे दिया गया दण्ड चित्र एक सप्ताह के विभिन्न दिनों में एक कंपनी द्वारा निर्मित साबुन के पैकेटों की संख्या को दर्शाता है।



दिन 1 की तुलना में दिन 4 पर कंपनी द्वारा निर्मित साबुन के पैकेटों की संख्या में कितनी प्रतिशत कमी हुई है?

Options :

1. ✓ 79.59 प्रतिशत
2. ✗ 81.51 प्रतिशत
3. ✗ 83.59 प्रतिशत
4. ✗ 85.59 प्रतिशत

General English1

Group Number :	7
Group Id :	5459272537
Group Maximum Duration :	0
Group Minimum Duration :	0
Show Attended Group? :	No
Edit Attended Group? :	No
Break time:	0
Group Marks:	20
Is this Group for Examiner?:	No
Revisit allowed for group Instructions? :	Yes
Maximum Instruction Time:	0
Minimum Instruction Time:	0

General English1

Section Id :	5459272537
Section Number :	1
Section type :	Online
Mandatory or Optional:	Mandatory
Number of Questions:	20
Number of Questions to be attempted:	20
Section Marks:	20

Sub-Section Number:	1
Sub-Section Id:	5459273043
Question Shuffling Allowed :	Yes

Question Number : 121 Question Id : 54592751227 Question Type : MCQ Option Shuffling : Yes
Correct Marks : 1 Wrong Marks : 0.25

A sentence has been given with a blank to be filled with an appropriate word. Choose the correct alternative.

If I _____ you, I would have invited him to the party.

Options :

1. ✖ was
2. ✖ am
3. ✖ are
4. ✔ were

Question Number : 121 Question Id : 54592751227 Question Type : MCQ Option Shuffling : Yes
Correct Marks : 1 Wrong Marks : 0.25

A sentence has been given with a blank to be filled with an appropriate word. Choose the correct alternative.

If I _____ you, I would have invited him to the party.

Options :

1. ✖ was
2. ✖ am

3. ✖ are

4. ✔ were

Question Number : 122 Question Id : 54592751228 Question Type : MCQ Option Shuffling : Yes

Correct Marks : 1 Wrong Marks : 0.25

A sentence has been given with a blank to be filled with an appropriate word. Choose the correct alternative.

The thief _____ with the stolen money.

Options :

1. ✔ absconded

2. ✖ lingered

3. ✖ abided

4. ✖ secluded

Question Number : 122 Question Id : 54592751228 Question Type : MCQ Option Shuffling : Yes

Correct Marks : 1 Wrong Marks : 0.25

A sentence has been given with a blank to be filled with an appropriate word. Choose the correct alternative.

The thief _____ with the stolen money.

Options :

1. ✔ absconded

2. ✖ lingered

3. ✖ abided

4. ✖ secluded

Question Number : 123 Question Id : 54592751229 Question Type : MCQ Option Shuffling : Yes

Correct Marks : 1 Wrong Marks : 0.25

A sentence has been given with a blank to be filled with an appropriate word. Choose the correct alternative.

He has always _____ her success, because he could not become as successful.

Options :

1. ✖ acknowledged
2. ✔ envied
3. ✖ commended
4. ✖ eulogised

Question Number : 123 Question Id : 54592751229 Question Type : MCQ Option Shuffling : Yes
Correct Marks : 1 Wrong Marks : 0.25

A sentence has been given with a blank to be filled with an appropriate word. Choose the correct alternative.

He has always _____ her success, because he could not become as successful.

Options :

1. ✖ acknowledged
2. ✔ envied
3. ✖ commended
4. ✖ eulogised

Question Number : 124 Question Id : 54592751230 Question Type : MCQ Option Shuffling : Yes
Correct Marks : 1 Wrong Marks : 0.25

A sentence has been given with a blank to be filled with an appropriate word. Choose the correct alternative.

I have not _____ her for some time.

Options :

1. ✘ saw
2. ✘ see
3. ✔ seen
4. ✘ sees

Question Number : 124 Question Id : 54592751230 Question Type : MCQ Option Shuffling : Yes
Correct Marks : 1 Wrong Marks : 0.25

A sentence has been given with a blank to be filled with an appropriate word. Choose the correct alternative.

I have not _____ her for some time.

Options :

1. ✘ saw
2. ✘ see
3. ✔ seen
4. ✘ sees

Question Number : 125 Question Id : 54592751231 Question Type : MCQ Option Shuffling : Yes
Correct Marks : 1 Wrong Marks : 0.25

A sentence has been given with a blank to be filled with an appropriate word. Choose the correct alternative.

Saurabh wanted to know when I _____.

Options :

1. ✘ came

2. ✖ had came

3. ✖ have come

4. ✔ had come

Question Number : 125 Question Id : 54592751231 Question Type : MCQ Option Shuffling : Yes
Correct Marks : 1 Wrong Marks : 0.25

A sentence has been given with a blank to be filled with an appropriate word. Choose the correct alternative.

Saurabh wanted to know when I _____.

Options :

1. ✖ came

2. ✖ had came

3. ✖ have come

4. ✔ had come

Question Number : 126 Question Id : 54592751232 Question Type : MCQ Option Shuffling : Yes
Correct Marks : 1 Wrong Marks : 0.25

A sentence has been given with a blank to be filled with an appropriate word. Choose the correct alternative.

Rishab set _____ the book and started playing games.

Options :

1. ✖ off

2. ✔ aside

3. ✖ apart

4. ✖ out

Question Number : 126 Question Id : 54592751232 Question Type : MCQ Option Shuffling : Yes
Correct Marks : 1 Wrong Marks : 0.25

A sentence has been given with a blank to be filled with an appropriate word. Choose the correct alternative.

Rishab set _____ the book and started playing games.

Options :

1. ✘ off
2. ✔ aside
3. ✘ apart
4. ✘ out

Question Number : 127 Question Id : 54592751233 Question Type : MCQ Option Shuffling : Yes

Correct Marks : 1 Wrong Marks : 0.25

Find the part of the given sentence that has an error in it. If there is no error, choose 'No error'.

The police (1)/ was looking (2)/ for the thief (3)/. No error (4)

Options :

1. ✘ 1
2. ✘ 2
3. ✘ 3
4. ✔ 4

Question Number : 127 Question Id : 54592751233 Question Type : MCQ Option Shuffling : Yes

Correct Marks : 1 Wrong Marks : 0.25

Find the part of the given sentence that has an error in it. If there is no error, choose 'No error'.

The police (1)/ was looking (2)/ for the thief (3)/. No error (4)

Options :

1. ✖ 1

2. ✖ 2

3. ✖ 3

4. ✔ 4

Question Number : 128 Question Id : 54592751234 Question Type : MCQ Option Shuffling : Yes

Correct Marks : 1 Wrong Marks : 0.25

Find the part of the given sentence that has an error in it. If there is no error, choose 'No error'.

He dare (1)/ not punish (2)/ the child (3)/. No error (4)

Options :

1. ✖ 1

2. ✖ 2

3. ✖ 3

4. ✔ 4

Question Number : 128 Question Id : 54592751234 Question Type : MCQ Option Shuffling : Yes

Correct Marks : 1 Wrong Marks : 0.25

Find the part of the given sentence that has an error in it. If there is no error, choose 'No error'.

He dare (1)/ not punish (2)/ the child (3)/. No error (4)

Options :

1. ✖ 1

2. ✖ 2

3. ✖ 3

4. ✔ 4

Question Number : 129 Question Id : 54592751235 Question Type : MCQ Option Shuffling : Yes

Correct Marks : 1 Wrong Marks : 0.25

Find the part of the given sentence that has an error in it. If there is no error, choose 'No error'.

I hope you (1)/ will excuse my (2)/ coming late (3)/. No error (4)

Options :

1. ✖ 1

2. ✖ 2

3. ✖ 3

4. ✔ 4

Question Number : 129 Question Id : 54592751235 Question Type : MCQ Option Shuffling : Yes

Correct Marks : 1 Wrong Marks : 0.25

Find the part of the given sentence that has an error in it.
If there is no error, choose 'No error'.

I hope you (1)/ will excuse my (2)/ coming late (3)/. No error (4)

Options :

1. ✖ 1

2. ✖ 2

3. ✖ 3

4. ✔ 4

Question Number : 130 Question Id : 54592751236 Question Type : MCQ Option Shuffling : Yes

Correct Marks : 1 Wrong Marks : 0.25

In the following question, out of the given four alternatives, select the alternative which best expresses the meaning of the Idiom/Phrase.

Make no bones about it

Options :

1. ✖ Confess to the act

2. ✖ One's stand or argument

3. ✖ To leave something incomplete

4. ✔ To make no fuss

Question Number : 130 Question Id : 54592751236 Question Type : MCQ Option Shuffling : Yes

Correct Marks : 1 Wrong Marks : 0.25

In the following question, out of the given four alternatives, select the alternative which best expresses the meaning of the Idiom/Phrase.

Make no bones about it

Options :

1. ✖ Confess to the act
2. ✖ One's stand or argument
3. ✖ To leave something incomplete
4. ✔ To make no fuss

Question Number : 131 Question Id : 54592751237 Question Type : MCQ Option Shuffling : Yes

Correct Marks : 1 Wrong Marks : 0.25

Choose the word that can substitute the given sentence.

One who is filled with excessive enthusiasm in religious matters

Options :

1. ✖ Endorser
2. ✖ Amateur
3. ✖ Adversary
4. ✔ Fanatic

Question Number : 131 Question Id : 54592751237 Question Type : MCQ Option Shuffling : Yes

Correct Marks : 1 Wrong Marks : 0.25

Choose the word that can substitute the given sentence.

One who is filled with excessive enthusiasm in religious matters

Options :

1. ✘ Endorser
2. ✘ Amateur
3. ✘ Adversary
4. ✔ Fanatic

Question Number : 132 Question Id : 54592751238 Question Type : MCQ Option Shuffling : Yes

Correct Marks : 1 Wrong Marks : 0.25

Choose the word that can substitute the given sentence.

A keeper or custodian of a museum or other collection

Options :

1. ✘ Attendant
2. ✘ Bohemian
3. ✘ Dabbler
4. ✔ Curator

Question Number : 132 Question Id : 54592751238 Question Type : MCQ Option Shuffling : Yes

Correct Marks : 1 Wrong Marks : 0.25

Choose the word that can substitute the given sentence.

A keeper or custodian of a museum or other collection

Options :

1. ✘ Attendant

2. ✖ Bohemian

3. ✖ Dabbler

4. ✔ Curator

Question Number : 133 Question Id : 54592751239 Question Type : MCQ Option Shuffling : Yes
Correct Marks : 1 Wrong Marks : 0.25

Choose the word that can substitute the given sentence.

Fear of being egotistical, being alone or isolated

Options :

1. ✖ Claustrophobia

2. ✖ Dipsophobia

3. ✔ Autophobia

4. ✖ Cacophobia

Question Number : 133 Question Id : 54592751239 Question Type : MCQ Option Shuffling : Yes
Correct Marks : 1 Wrong Marks : 0.25

Choose the word that can substitute the given sentence.

Fear of being egotistical, being alone or isolated

Options :

1. ✖ Claustrophobia

2. ✖ Dipsophobia

3. ✔ Autophobia

4. ✖ Cacophobia

Question Number : 134 Question Id : 54592751240 Question Type : MCQ Option Shuffling : Yes
Correct Marks : 1 Wrong Marks : 0.25

Rearrange the parts of the sentence in correct order.

While there are many

P: ritual an adult Hindu undertakes

Q: festival-related rituals in Hinduism,

R: vivaha (wedding) is the most extensive personal

Options :

1. ✖ RPQ

2. ✖ QPR

3. ✖ PQR

4. ✔ QRP

Question Number : 134 Question Id : 54592751240 Question Type : MCQ Option Shuffling : Yes

Correct Marks : 1 Wrong Marks : 0.25

Rearrange the parts of the sentence in correct order.

While there are many

P: ritual an adult Hindu undertakes

Q: festival-related rituals in Hinduism,

R: vivaha (wedding) is the most extensive personal

Options :

1. ✖ RPQ

2. ✖ QPR

3. ✖ PQR

4. ✔ QRP

Question Number : 135 Question Id : 54592751241 Question Type : MCQ Option Shuffling : Yes

Correct Marks : 1 Wrong Marks : 0.25

In the given question, four words are given out of which one word is correctly spelt. Choose the correctly spelt word.

Options :

1. ✖ Romour
2. ✔ Rumour
3. ✖ Rumar
4. ✖ Rumwor

Question Number : 135 Question Id : 54592751241 Question Type : MCQ Option Shuffling : Yes
Correct Marks : 1 Wrong Marks : 0.25

In the given question, four words are given out of which one word is correctly spelt. Choose the correctly spelt word.

Options :

1. ✖ Romour
2. ✔ Rumour
3. ✖ Rumar
4. ✖ Rumwor

Question Number : 136 Question Id : 54592751242 Question Type : MCQ Option Shuffling : Yes
Correct Marks : 1 Wrong Marks : 0.25

Which of the following is a synonym – antonym pair?

Options :

1. ✔ abate – grow
2. ✖ abject – pitiful
3. ✖ abandon – discontinue
4. ✖ abjure – renounce

Question Number : 136 Question Id : 54592751242 Question Type : MCQ Option Shuffling : Yes
Correct Marks : 1 Wrong Marks : 0.25

Which of the following is a synonym - antonym pair?

Options :

1. ✓ abate - grow
2. ✗ abject - pitiful
3. ✗ abandon - discontinue
4. ✗ abjure - renounce

Question Number : 137 Question Id : 54592751243 Question Type : MCQ Option Shuffling : Yes
Correct Marks : 1 Wrong Marks : 0.25

Choose the word that means the same as the given word.

PRECISE

Options :

1. ✗ expansion
2. ✓ decisive
3. ✗ increment
4. ✗ quit

Question Number : 137 Question Id : 54592751243 Question Type : MCQ Option Shuffling : Yes
Correct Marks : 1 Wrong Marks : 0.25

Choose the word that means the same as the given word.

PRECISE

Options :

1. ✗ expansion
2. ✓ decisive
3. ✗ increment
4. ✗ quit

Question Number : 138 Question Id : 54592751244 Question Type : MCQ Option Shuffling : Yes
Correct Marks : 1 Wrong Marks : 0.25

Choose the word that means the same as the given word.

TIMID

Options :

1. ✓ coward
2. ✗ bold
3. ✗ intrepid
4. ✗ crowd

Question Number : 138 Question Id : 54592751244 Question Type : MCQ Option Shuffling : Yes

Correct Marks : 1 Wrong Marks : 0.25

Choose the word that means the same as the given word.

TIMID

Options :

1. ✓ coward
2. ✗ bold
3. ✗ intrepid
4. ✗ crowd

Question Number : 139 Question Id : 54592751245 Question Type : MCQ Option Shuffling : Yes

Correct Marks : 1 Wrong Marks : 0.25

Improve the bracketed part of the sentence.

Dipu said that he (shall bought) a pen

Options :

1. ✓ had bought
2. ✗ will have bought
3. ✗ has bought

4. ✖ No Improvement

Question Number : 139 Question Id : 54592751245 Question Type : MCQ Option Shuffling : Yes
Correct Marks : 1 Wrong Marks : 0.25

Improve the bracketed part of the sentence.

Dipu said that he (shall bought) a pen

Options :

1. ✔ had bought
2. ✖ will have bought
3. ✖ has bought
4. ✖ No Improvement

Question Number : 140 Question Id : 54592751246 Question Type : MCQ Option Shuffling : Yes
Correct Marks : 1 Wrong Marks : 0.25

Improve the bracketed part of the sentence.

Preeti was (rewarded on) her bravery.

Options :

1. ✖ been rewarded for
2. ✔ rewarded for
3. ✖ rewarded by
4. ✖ No Improvement

Question Number : 140 Question Id : 54592751246 Question Type : MCQ Option Shuffling : Yes
Correct Marks : 1 Wrong Marks : 0.25

Improve the bracketed part of the sentence.

Preeti was (rewarded on) her bravery.

Options :

1. ✖ been rewarded for

2. ✔ rewarded for

3. ✖ rewarded by

4. ✖ No Improvement

General English2

Group Number :	8
Group Id :	5459272538
Group Maximum Duration :	0
Group Minimum Duration :	0
Show Attended Group? :	No
Edit Attended Group? :	No
Break time:	0
Group Marks:	20
Is this Group for Examiner?:	No
Revisit allowed for group Instructions? :	Yes
Maximum Instruction Time:	0
Minimum Instruction Time:	0

General English2

Section Id :	5459272538
Section Number :	1
Section type :	Online
Mandatory or Optional:	Mandatory
Number of Questions:	16
Number of Questions to be attempted:	16
Section Marks:	20

Sub-Section Number:	1
Sub-Section Id:	5459273044
Question Shuffling Allowed :	Yes

Question Number : 141 Question Id : 54592751247 Question Type : MCQ Option Shuffling : Yes
Correct Marks : 1 Wrong Marks : 0.25

Improve the bracketed part of the sentence.

My father did not (approve with) his plan.

Options :

1. ✓ approve of
2. ✗ approve within
3. ✗ approve by
4. ✗ No Improvement

Question Number : 141 Question Id : 54592751247 Question Type : MCQ Option Shuffling : Yes
Correct Marks : 1 Wrong Marks : 0.25

Improve the bracketed part of the sentence.

My father did not (approve with) his plan.

Options :

1. ✓ approve of
2. ✗ approve within
3. ✗ approve by
4. ✗ No Improvement

Question Number : 142 Question Id : 54592751248 Question Type : MCQ Option Shuffling : Yes
Correct Marks : 1 Wrong Marks : 0.25

A sentence has been given with a blank to be filled with an appropriate word. Choose the correct alternative.

I have been _____ whether you like coffee.

Options :

1. ✗ wondered
2. ✗ wonder
3. ✓ wondering
4. ✗ wandering if

Question Number : 142 Question Id : 54592751248 Question Type : MCQ Option Shuffling : Yes
Correct Marks : 1 Wrong Marks : 0.25

A sentence has been given with a blank to be filled with an appropriate word. Choose the correct alternative.

I have been _____ whether you like coffee.

Options :

1. ✘ wondered
2. ✘ wonder
3. ✔ wondering
4. ✘ wandering if

Question Number : 143 Question Id : 54592751249 Question Type : MCQ Option Shuffling : Yes

Correct Marks : 1 Wrong Marks : 0.25

Find the part of the given sentence that has an error in it. If there is no error, choose 'No error'.

She is staying (1)/ with a old (2)/ friend of hers (3)/. No error (4)

Options :

1. ✘ 1
2. ✔ 2
3. ✘ 3
4. ✘ 4

Question Number : 143 Question Id : 54592751249 Question Type : MCQ Option Shuffling : Yes

Correct Marks : 1 Wrong Marks : 0.25

Find the part of the given sentence that has an error in it. If there is no error, choose 'No error'.

She is staying (1)/ with a old (2)/ friend of hers (3)/. No error (4)

Options :

1. ✖ 1

2. ✔ 2

3. ✖ 3

4. ✖ 4

Question Number : 144 Question Id : 54592751250 Question Type : MCQ Option Shuffling : Yes

Correct Marks : 1 Wrong Marks : 0.25

In the following question, out of the given four alternatives, select the alternative which best expresses the meaning of the Idiom/Phrase.

A cake walk

Options :

1. ✔ A very easy matter

2. ✖ Out of favour with a superior

3. ✖ At a close distance

4. ✖ An undesirable company

Question Number : 144 Question Id : 54592751250 Question Type : MCQ Option Shuffling : Yes

Correct Marks : 1 Wrong Marks : 0.25

In the following question, out of the given four alternatives, select the alternative which best expresses the meaning of the Idiom/Phrase.

A cake walk

Options :

1. ✓ A very easy matter
2. ✗ Out of favour with a superior
3. ✗ At a close distance
4. ✗ An undesirable company

Question Number : 145 Question Id : 54592751251 Question Type : MCQ Option Shuffling : Yes

Correct Marks : 1 Wrong Marks : 0.25

Rearrange the parts of the sentence in correct order.

I've been in

P: for 35 years

Q: practice as a

R: clinical psychologist

Options :

1. ✓ QRP
2. ✗ RQP
3. ✗ PQR
4. ✗ RPQ

Question Number : 145 Question Id : 54592751251 Question Type : MCQ Option Shuffling : Yes

Correct Marks : 1 Wrong Marks : 0.25

Rearrange the parts of the sentence in correct order.

I've been in

P: for 35 years

Q: practice as a

R: clinical psychologist

Options :

1. ✓ QRP

2. ✗ RQP

3. ✗ PQR

4. ✗ RPQ

Question Number : 146 Question Id : 54592751252 Question Type : MCQ Option Shuffling : Yes

Correct Marks : 1 Wrong Marks : 0.25

In the given question, four words are given out of which one word is correctly spelt. Choose the correctly spelt word

Options :

1. ✗ Cuntry

2. ✓ Country

3. ✗ Countre

4. ✗ Countree

Question Number : 146 Question Id : 54592751252 Question Type : MCQ Option Shuffling : Yes

Correct Marks : 1 Wrong Marks : 0.25

In the given question, four words are given out of which one word is correctly spelt. Choose the correctly spelt word

Options :

1. ✗ Cuntry

2. ✓ Country

3. ✗ Countre

4. ✗ Countree

Question Number : 147 Question Id : 54592751253 Question Type : MCQ Option Shuffling : Yes
Correct Marks : 1 Wrong Marks : 0.25

Choose the word that is similar in meaning to the given word.

DISDAIN

Options :

1. ✗ courtesy

2. ✗ reverence

3. ✓ disregard

4. ✗ regard

Question Number : 147 Question Id : 54592751253 Question Type : MCQ Option Shuffling : Yes
Correct Marks : 1 Wrong Marks : 0.25

Choose the word that is similar in meaning to the given word.

DISDAIN

Options :

1. ✗ courtesy

2. ✗ reverence

3. ✓ disregard

4. ✗ regard

Question Number : 148 Question Id : 54592751254 Question Type : MCQ Option Shuffling : Yes
Correct Marks : 1 Wrong Marks : 0.25

Improve the bracketed part of the sentence.

“Hamlet” (are) an interesting play.

Options :

1. ✖ was
2. ✔ is
3. ✖ will be
4. ✖ No Improvement

Question Number : 148 Question Id : 54592751254 Question Type : MCQ Option Shuffling : Yes
Correct Marks : 1 Wrong Marks : 0.25

Improve the bracketed part of the sentence.

“Hamlet” (are) an interesting play.

Options :

1. ✖ was
2. ✔ is
3. ✖ will be
4. ✖ No Improvement

Question Number : 149 Question Id : 54592751255 Question Type : MCQ Option Shuffling : Yes
Correct Marks : 1 Wrong Marks : 0.25

A sentence has been given with a blank to be filled with an appropriate word. Choose the correct alternative.

She was guilty _____ murder.

Options :

1. ✔ of
2. ✖ for

3. ✖ by

4. ✖ with

Question Number : 149 Question Id : 54592751255 Question Type : MCQ Option Shuffling : Yes

Correct Marks : 1 Wrong Marks : 0.25

A sentence has been given with a blank to be filled with an appropriate word. Choose the correct alternative.

She was guilty _____ murder.

Options :

1. ✔ of

2. ✖ for

3. ✖ by

4. ✖ with

Question Number : 150 Question Id : 54592751256 Question Type : MCQ Option Shuffling : Yes

Correct Marks : 1 Wrong Marks : 0.25

Find the part of the given sentence that has an error in it. If there is no error, choose 'No error'.

They was (1)/ not attending (2)/ the meeting (3)/. No error (4)

Options :

1. ✔ 1

2. ✖ 2

3. ✖ 3

4. ✖ 4

Question Number : 150 Question Id : 54592751256 Question Type : MCQ Option Shuffling : Yes

Correct Marks : 1 Wrong Marks : 0.25

Find the part of the given sentence that has an error in it. If there is no error, choose 'No error'.

They was (1)/ not attending (2)/ the meeting (3)/. No error (4)

Options :

1. ✓ 1

2. ✗ 2

3. ✗ 3

4. ✗ 4

Question Number : 151 Question Id : 54592751257 Question Type : MCQ Option Shuffling : Yes

Correct Marks : 1 Wrong Marks : 0.25

In the following question, out of the given four alternatives, select the alternative which best expresses the meaning of the Idiom/Phrase.

Broken-hearted

Options :

1. ✗ To have an ailment

2. ✗ With all one's belongings

3. ✓ Very sad

4. ✗ To be in a totally helpless condition

Question Number : 151 Question Id : 54592751257 Question Type : MCQ Option Shuffling : Yes

Correct Marks : 1 Wrong Marks : 0.25

In the following question, out of the given four alternatives, select the alternative which best expresses the meaning of the Idiom/Phrase.

Broken-hearted

Options :

1. ✖ To have an ailment
2. ✖ With all one's belongings
3. ✔ Very sad
4. ✖ To be in a totally helpless condition

Question Number : 152 Question Id : 54592751258 Question Type : MCQ Option Shuffling : Yes

Correct Marks : 1 Wrong Marks : 0.25

Rearrange the parts of the sentence in correct order.

Education is not about
P: survive on your own
Q: getting a degree it is
R: about how you can

Options :

1. ✔ QRP
2. ✖ PRQ
3. ✖ QPR
4. ✖ RQP

Question Number : 152 Question Id : 54592751258 Question Type : MCQ Option Shuffling : Yes

Correct Marks : 1 Wrong Marks : 0.25

Rearrange the parts of the sentence in correct order.

Education is not about

P: survive on your own

Q: getting a degree it is

R: about how you can

Options :

1. ✓ QRP

2. ✗ PRQ

3. ✗ QPR

4. ✗ RQP

Question Number : 153 Question Id : 54592751259 Question Type : MCQ Option Shuffling : Yes

Correct Marks : 1 Wrong Marks : 0.25

In the given question, four words are given out of which one word is correctly spelt. Choose the correctly spelt word.

Options :

1. ✗ Stamach

2. ✓ Stomach

3. ✗ Stomeck

4. ✗ Stamock

Question Number : 153 Question Id : 54592751259 Question Type : MCQ Option Shuffling : Yes

Correct Marks : 1 Wrong Marks : 0.25

In the given question, four words are given out of which one word is correctly spelt. Choose the correctly spelt word.

Options :

1. ✗ Stamach

2. ✓ Stomach

3. ✗ Stomeck

4. ✗ Stamock

Question Number : 154 Question Id : 54592751260 Question Type : MCQ Option Shuffling : Yes
Correct Marks : 1 Wrong Marks : 0.25

Choose the word that is opposite in meaning to the given word.

FERTILE

Options :

1. ✓ desolate

2. ✗ quiet

3. ✗ tough

4. ✗ commotion

Question Number : 154 Question Id : 54592751260 Question Type : MCQ Option Shuffling : Yes
Correct Marks : 1 Wrong Marks : 0.25

Choose the word that is opposite in meaning to the given word.

FERTILE

Options :

1. ✓ desolate

2. ✗ quiet

3. ✗ tough

4. ✗ commotion

Question Number : 155 Question Id : 54592751261 Question Type : MCQ Option Shuffling : Yes
Correct Marks : 1 Wrong Marks : 0.25

Improve the bracketed part of the sentence.

(I gave to) Leela the box.

Options :

1. ✖ I gave her
2. ✖ I give to
3. ✔ I gave
4. ✖ No Improvement

Question Number : 155 Question Id : 54592751261 Question Type : MCQ Option Shuffling : Yes

Correct Marks : 1 Wrong Marks : 0.25

Improve the bracketed part of the sentence.

(I gave to) Leela the box.

Options :

1. ✖ I gave her
2. ✖ I give to
3. ✔ I gave
4. ✖ No Improvement

Sub-Section Number:	2
Sub-Section Id:	5459273045
Question Shuffling Allowed :	Yes

Question Id : 54592751262 Question Type : COMPREHENSION Sub Question Shuffling Allowed : Yes Group Comprehension Questions : No

Question Numbers : (156 to 160)

Question Label : Comprehension

Read the following information carefully and answer the given questions.

Unemployment refers to people not being gainfully employed. In other words, people do not engage in productive activity that helps them earn for their living. It is an issue of concern in countries around the globe. Employment does not refer to staying active but instead to be employed gainfully. When people are gainfully employed they also take active part in the growth, development and progress of the nation in the positive and desirable direction.

Unemployment is a social ill and leads to many others. Where there is high unemployment there is a greater disturbance in society. Cases of murders and rapes are more frequent in such a society. Likewise, robberies and burglaries are also the outcomes of high unemployment rates. Addiction to alcohol and drugs also go up and that leads to many other issues.

When there is unemployment people engage in unlawful or illicit activities to be able to get the resources to satisfy their basic needs. It leads to beggary and a poor standard of living. Unemployed people become lazy and it causes many physical and mental health conditions. There is an increase in the number of persons needing psychiatric assistance when there is a high level of unemployment. People suffer from depression and the percentage of suicides is also high in a society where people are unemployed. When the needs and wants of life are not met, and there seems to be no possibility of finding a livelihood, people are drawn to end their lives. The government needs to come up with ways to resolve the issue of unemployment. More jobs need to be made available to the youth. The education system too needs to be revamped so that the educated youth and others are skilled to take up jobs and find a source of livelihood.

Sub questions

Question Number : 156 Question Id : 54592751263 Question Type : MCQ Option Shuffling : Yes

Correct Marks : 1 Wrong Marks : 0.25

What should the government do to solve the problem of unemployment?

Options :

1. ✖ Provide financial support to unemployed youth so that they do not resort to unfair means to earn a livelihood.
2. ✔ Revamp the education system so that the youth can acquire skill-based knowledge which helps them get good jobs.
3. ✖ Provide one job per household so that the family does not resort to beggary.
4. ✖ Stop the pensions of retired government officials.

Question Number : 157 Question Id : 54592751264 Question Type : MCQ Option Shuffling : Yes

Correct Marks : 1 Wrong Marks : 0.25

What does the word 'revamp' mean in the paragraph?

Options :

1. ✖ Deface
2. ✖ Stabilize
3. ✔ Alter
4. ✖ Fix

Question Number : 158 Question Id : 54592751265 Question Type : MCQ Option Shuffling : Yes

Correct Marks : 1 Wrong Marks : 0.25

According to the paragraph what does employment refer to?

Options :

1. ✖ To be active and working
2. ✖ To be earning using any means
3. ✖ To not be gainfully employed
4. ✔ To engage in productive and fair activity that helps people earn

Question Number : 159 Question Id : 54592751266 Question Type : MCQ Option Shuffling : Yes

Correct Marks : 1 Wrong Marks : 0.25

Which of the following is not caused by unemployment?

Options :

1. ✓ Class conflicts within the society
2. ✗ Criminal activities like robberies, murders and rapes
3. ✗ Beggary
4. ✗ Mental and physical health conditions

Question Number : 160 Question Id : 54592751267 Question Type : MCQ Option Shuffling : Yes

Correct Marks : 1 Wrong Marks : 0.25

Dealing with unemployment is important for the development of a society because:

- I. Gainfully employed people actively participate in the progress of the nation.
- II. Employment decreases the rate of crimes in a society and helps establish harmony
- III. Employment raises the standard of living and helps promote physical and mental health.
- IV. It has a negative impact on the education system of the country.

Options :

1. ✗ I, II and IV
2. ✓ I, II and III
3. ✗ II, III, IV
4. ✗ I, III, IV

Question Id : 54592751262 Question Type : COMPREHENSION Sub Question Shuffling Allowed : Yes Group Comprehension Questions : No

Question Numbers : (156 to 160)

Question Label : Comprehension

Read the following information carefully and answer the given questions.

Unemployment refers to people not being gainfully employed. In other words, people do not engage in productive activity that helps them earn for their living. It is an issue of concern in countries around the globe.

Employment does not refer to staying active but instead to be employed gainfully. When people are gainfully employed they also take active part in the growth, development and progress of the nation in the positive and desirable direction.

Unemployment is a social ill and leads to many others.

Where there is high unemployment there is a greater disturbance in society. Cases of murders and rapes are more frequent in such a society. Likewise, robberies and burglaries are also the outcomes of high unemployment rates. Addiction to alcohol and drugs also go up and that leads to many other issues. When there is unemployment people engage in unlawful or illicit activities to be able to get the resources to satisfy their basic needs. It leads to beggary and a poor standard of living.

Unemployed people become lazy and it causes many physical and mental health conditions. There is an increase in the number of persons needing psychiatric assistance when there is a high level of unemployment. People suffer from depression and the percentage of suicides is also high in a society where people are unemployed. When the needs and wants of life are not met, and there seems to be no possibility of finding a livelihood, people are drawn to end their lives.

The government needs to come up with ways to resolve the issue of unemployment. More jobs need to be made available to the youth. The education system too needs to be revamped so that the educated youth and others are skilled to take up jobs and find a source of livelihood.

Sub questions

Question Number : 156 Question Id : 54592751263 Question Type : MCQ Option Shuffling : Yes

Correct Marks : 1 Wrong Marks : 0.25

What should the government do to solve the problem of unemployment?

Options :

1. ✖ Provide financial support to unemployed youth so that they do not resort to unfair means to earn a livelihood.
2. ✔ Revamp the education system so that the youth can acquire skill-based knowledge which helps them get good jobs.
3. ✖ Provide one job per household so that the family does not resort to beggary.
4. ✖ Stop the pensions of retired government officials.

Question Number : 157 Question Id : 54592751264 Question Type : MCQ Option Shuffling : Yes

Correct Marks : 1 Wrong Marks : 0.25

What does the word 'revamp' mean in the paragraph?

Options :

1. ✖ Deface
2. ✖ Stabilize
3. ✔ Alter
4. ✖ Fix

Question Number : 158 Question Id : 54592751265 Question Type : MCQ Option Shuffling : Yes

Correct Marks : 1 Wrong Marks : 0.25

According to the paragraph what does employment refer to?

Options :

1. ✖ To be active and working

2. ✖ To be earning using any means

3. ✖ To not be gainfully employed

4. ✔ To engage in productive and fair activity that helps people earn

Question Number : 159 Question Id : 54592751266 Question Type : MCQ Option Shuffling : Yes
Correct Marks : 1 Wrong Marks : 0.25

Which of the following is not caused by unemployment?

Options :

1. ✔ Class conflicts within the society

2. ✖ Criminal activities like robberies, murders and rapes

3. ✖ Beggary

4. ✖ Mental and physical health conditions

Question Number : 160 Question Id : 54592751267 Question Type : MCQ Option Shuffling : Yes
Correct Marks : 1 Wrong Marks : 0.25

Dealing with unemployment is important for the development of a society because:

I. Gainfully employed people actively participate in the progress of the nation.

II. Employment decreases the rate of crimes in a society and helps establish harmony

III. Employment raises the standard of living and helps promote physical and mental health.

IV. It has a negative impact on the education system of the country.

Options :

1. ✘ I, II and IV

2. ✔ I, II and III

3. ✘ II, III, IV

4. ✘ I, III, IV

General Hindi1

Group Number :	9
Group Id :	5459272539
Group Maximum Duration :	0
Group Minimum Duration :	0
Show Attended Group? :	No
Edit Attended Group? :	No
Break time:	0
Group Marks:	20
Is this Group for Examiner? :	No
Revisit allowed for group Instructions? :	Yes
Maximum Instruction Time:	0
Minimum Instruction Time:	0

General Hindi1

Section Id :	5459272539
Section Number :	1
Section type :	Online
Mandatory or Optional:	Mandatory
Number of Questions:	20
Number of Questions to be attempted:	20
Section Marks:	20

Sub-Section Number:	1
Sub-Section Id:	5459273046
Question Shuffling Allowed :	Yes

Question Number : 161 Question Id : 54592751268 Question Type : MCQ Option Shuffling : Yes
Correct Marks : 1 Wrong Marks : 0.25

दिए गए शब्द का संधि विच्छेद ज्ञात कीजिए।

वध्वागमन

Options :

1. * विधवा + आगमन
2. * वधू + गमन
3. ✓ वधू + आगमन
4. * वधवा + गमन

Question Number : 161 Question Id : 54592751268 Question Type : MCQ Option Shuffling : Yes
Correct Marks : 1 Wrong Marks : 0.25

दिए गए शब्द का संधि विच्छेद ज्ञात कीजिए।

वध्वागमन

Options :

1. * विधवा + आगमन
2. * वधू + गमन
3. ✓ वधू + आगमन
4. * वधवा + गमन

Question Number : 162 Question Id : 54592751269 Question Type : MCQ Option Shuffling : Yes
Correct Marks : 1 Wrong Marks : 0.25

दिए गए शब्द में उपसर्ग ज्ञात कीजिए।

बाइज्जत

Options :

1. * ब
2. ✓ बा
3. * बाइ
4. * बे

Question Number : 162 Question Id : 54592751269 Question Type : MCQ Option Shuffling : Yes
Correct Marks : 1 Wrong Marks : 0.25

दिए गए शब्द में उपसर्ग ज्ञात कीजिए।

बाइज्जत

Options :

1. ✖ ब
2. ✔ बा
3. ✖ बाइ
4. ✖ बे

Question Number : 163 Question Id : 54592751270 Question Type : MCQ Option Shuffling : Yes
Correct Marks : 1 Wrong Marks : 0.25

दिए गए शब्द में प्रत्यय ज्ञात कीजिए।

भुलक़ड़

Options :

1. ✖ कड़
2. ✖ ककड़
3. ✖ लक़ड़
4. ✔ अक़ड़

Question Number : 163 Question Id : 54592751270 Question Type : MCQ Option Shuffling : Yes
Correct Marks : 1 Wrong Marks : 0.25

दिए गए शब्द में प्रत्यय ज्ञात कीजिए।

भुलक्कड़

Options :

1. ✖ कड़
2. ✖ ककड़
3. ✖ लक्कड़
4. ✔ अक्कड़

Question Number : 164 Question Id : 54592751271 Question Type : MCQ Option Shuffling : Yes

Correct Marks : 1 Wrong Marks : 0.25

निम्नलिखित में से कौन सा युग्म तत्सम - तद्भव का उदाहरण है?

Options :

1. * लोटा - लुटिया
2. * आदमी - औरत
3. ✓ गर्दभ - गधा
4. * सौ - शत

Question Number : 164 Question Id : 54592751271 Question Type : MCQ Option Shuffling : Yes

Correct Marks : 1 Wrong Marks : 0.25

निम्नलिखित में से कौन सा युग्म तत्सम - तद्भव का उदाहरण है?

Options :

1. * लोटा - लुटिया
2. * आदमी - औरत
3. ✓ गर्दभ - गधा
4. * सौ - शत

Question Number : 165 Question Id : 54592751272 Question Type : MCQ Option Shuffling : Yes

Correct Marks : 1 Wrong Marks : 0.25

दिए गए वाक्य में रेखांकित भाग किस प्रकार का विशेष्य है ज्ञात कीजिए।

छोटा बच्चा रेत का घर बना रहा था।

Options :

1. * छोटा
2. ✓ बच्चा
3. * रेत
4. * घर

Question Number : 165 Question Id : 54592751272 Question Type : MCQ Option Shuffling : Yes

Correct Marks : 1 Wrong Marks : 0.25

दिए गए वाक्य में रेखांकित भाग किस प्रकार का विशेष्य है ज्ञात कीजिए।

छोटा बच्चा रेत का घर बना रहा था।

Options :

1. ✖ छोटा
2. ✔ बच्चा
3. ✖ रेत
4. ✖ घर

Question Number : 166 Question Id : 54592751273 Question Type : MCQ Option Shuffling : Yes
Correct Marks : 1 Wrong Marks : 0.25

दिए गए वाक्यांश के लिए उचित शब्द का चयन कीजिए।

जो समाचार भेजता हो

Options :

1. ✖ प्रेषक
2. ✔ संवाददाता
3. ✖ डाकिया
4. ✖ रेडार

Question Number : 166 Question Id : 54592751273 Question Type : MCQ Option Shuffling : Yes
Correct Marks : 1 Wrong Marks : 0.25

दिए गए वाक्यांश के लिए उचित शब्द का चयन कीजिए।

जो समाचार भेजता हो

Options :

1. ✖ प्रेषक
2. ✔ संवाददाता

3. * डाकिया

4. * रेडार

Question Number : 167 Question Id : 54592751274 Question Type : MCQ Option Shuffling : Yes
Correct Marks : 1 Wrong Marks : 0.25

दिए गए वाक्यांश के लिए उचित शब्द का चयन कीजिए।

जिसने अपनी इंद्रियों को जीत लिया हो

Options :

1. * इन्द्रीजीत

2. ✓ जितेंद्रिय

3. * इन्द्रियाजीत

4. * इन्द्रजीत

Question Number : 167 Question Id : 54592751274 Question Type : MCQ Option Shuffling : Yes
Correct Marks : 1 Wrong Marks : 0.25

दिए गए वाक्यांश के लिए उचित शब्द का चयन कीजिए।

जिसने अपनी इंद्रियों को जीत लिया हो

Options :

1. * इन्द्रीजीत

2. ✓ जितेंद्रिय

3. * इन्द्रियाजीत

4. * इन्द्रजीत

Question Number : 168 Question Id : 54592751275 Question Type : MCQ Option Shuffling : Yes
Correct Marks : 1 Wrong Marks : 0.25

दिए गए शब्द का विलोम शब्द ज्ञात कीजिए।

गुप्त

Options :

1. * छुपना

2. ✓ प्रकट

3. * ढका

4. * नकाब

Question Number : 168 Question Id : 54592751275 Question Type : MCQ Option Shuffling : Yes
Correct Marks : 1 Wrong Marks : 0.25

दिए गए शब्द का विलोम शब्द ज्ञात कीजिए।

गुप्त

Options :

1. * छुपना

2. ✓ प्रकट

3. * ढका

4. * नकाब

Question Number : 169 Question Id : 54592751276 Question Type : MCQ Option Shuffling : Yes
Correct Marks : 1 Wrong Marks : 0.25

निम्नलिखित में से शुद्ध वर्तनी का चयन कीजिए।

Options :

1. * अननोत्पादन

2. * अनोत्पादन

3. ✓ अन्नोत्पादन

4. * अन्नोत्पादण

Question Number : 169 Question Id : 54592751276 Question Type : MCQ Option Shuffling : Yes
Correct Marks : 1 Wrong Marks : 0.25

निम्नलिखित में से शुद्ध वर्तनी का चयन कीजिए।

Options :

1. * अननोत्पादन

2. ✖ अनोत्पादन

3. ✔ अन्नोत्पादन

4. ✖ अन्नोत्पादन

Question Number : 170 Question Id : 54592751277 Question Type : MCQ Option Shuffling : Yes
Correct Marks : 1 Wrong Marks : 0.25

निम्नलिखित में से कौन सा शब्द युग्म पुनरुक्त शब्द युग्म है?

Note: For this question, discrepancy is found in question/answer. So, this question is ignored for all candidates.

Options :

1. कूड़ा - करकट
2. देवी - देवता
3. थका - हारा
4. दो - चार

Question Number : 170 Question Id : 54592751277 Question Type : MCQ Option Shuffling : Yes
Correct Marks : 1 Wrong Marks : 0.25

निम्नलिखित में से कौन सा शब्द युग्म पुनरुक्त शब्द युग्म है?

Note: For this question, discrepancy is found in question/answer. So, this question is ignored for all candidates.

Options :

1. कूड़ा - करकट
2. देवी - देवता
3. थका - हारा
4. दो - चार

Question Number : 171 Question Id : 54592751278 Question Type : MCQ Option Shuffling : Yes
Correct Marks : 1 Wrong Marks : 0.25

दिए गए वाक्य में उपयुक्त शब्द का चयन करके रिक्त स्थान की पूर्ति कीजिए।

_____ मनुष्य का शत्रु होता है।

Options :

1. ✔ अहंकार

2. * प्रेम

3. * मोहब्बत

4. * दुख

Question Number : 171 Question Id : 54592751278 Question Type : MCQ Option Shuffling : Yes

Correct Marks : 1 Wrong Marks : 0.25

दिए गए वाक्य में उपयुक्त शब्द का चयन करके रिक्त स्थान की पूर्ति कीजिए।

_____ मनुष्य का शत्रु होता है।

Options :

1. ✓ अहंकार

2. * प्रेम

3. * मोहब्बत

4. * दुख

Question Number : 172 Question Id : 54592751279 Question Type : MCQ Option Shuffling : Yes

Correct Marks : 1 Wrong Marks : 0.25

दिए गए वाक्य में उपयुक्त शब्द का चयन करके रिक्त स्थान की पूर्ति कीजिए।

दक्षिण अफ्रीका में गाँधी जी _____ करने गए।

Options :

1. * सेवा

2. ✓ वकालत

3. * नौकरी

4. * राज्य

Question Number : 172 Question Id : 54592751279 Question Type : MCQ Option Shuffling : Yes

Correct Marks : 1 Wrong Marks : 0.25

दिए गए वाक्य में उपयुक्त शब्द का चयन करके रिक्त स्थान की पूर्ति कीजिए।

दक्षिण अफ्रीका में गाँधी जी _____ करने गए।

Options :

1. ✖ सेवा
2. ✔ वकालत
3. ✖ नौकरी
4. ✖ राज्य

Question Number : 173 Question Id : 54592751280 Question Type : MCQ Option Shuffling : Yes
Correct Marks : 1 Wrong Marks : 0.25

दिए गए वाक्यांश के लिए उचित शब्द का चयन कीजिए।

जिसका अंत सुखमय हो

Options :

1. ✖ खुदंत
2. ✖ सुखंत
3. ✔ सुखांत
4. ✖ सुखी

Question Number : 173 Question Id : 54592751280 Question Type : MCQ Option Shuffling : Yes
Correct Marks : 1 Wrong Marks : 0.25

दिए गए वाक्यांश के लिए उचित शब्द का चयन कीजिए।

जिसका अंत सुखमय हो

Options :

1. ✖ खुदंत
2. ✖ सुखंत

3. ✓ सुखांत

4. ✘ सुखी

Question Number : 174 Question Id : 54592751281 Question Type : MCQ Option Shuffling : Yes
Correct Marks : 1 Wrong Marks : 0.25

दिए गए शब्द का विलोम शब्द ज्ञात कीजिए।

आवाहन

Options :

1. ✘ अकल्याण

2. ✘ बेकसूर

3. ✘ वास्तविक

4. ✓ विसर्जन

Question Number : 174 Question Id : 54592751281 Question Type : MCQ Option Shuffling : Yes
Correct Marks : 1 Wrong Marks : 0.25

दिए गए शब्द का विलोम शब्द ज्ञात कीजिए।

आवाहन

Options :

1. ✘ अकल्याण

2. ✘ बेकसूर

3. ✘ वास्तविक

4. ✓ विसर्जन

Question Number : 175 Question Id : 54592751282 Question Type : MCQ Option Shuffling : Yes
Correct Marks : 1 Wrong Marks : 0.25

दिए गए शब्द का समानार्थी शब्द ज्ञात कीजिए।

मलयज

Options :

1. * हत
2. * चाँद
3. ✓ गंधराज
4. * गऊ

Question Number : 175 Question Id : 54592751282 Question Type : MCQ Option Shuffling : Yes
Correct Marks : 1 Wrong Marks : 0.25

दिए गए शब्द का समानार्थी शब्द ज्ञात कीजिए।

मलयज

Options :

1. * हत
2. * चाँद
3. ✓ गंधराज
4. * गऊ

Question Number : 176 Question Id : 54592751283 Question Type : MCQ Option Shuffling : Yes
Correct Marks : 1 Wrong Marks : 0.25

दिए गए वाक्य में उचित परसर्ग का चयन करके रिक्त स्थान की पूर्ति कीजिए।

रवि _____ चॉकलेट खाना बहुत पसंद है।

Options :

1. ✓ को
2. * की
3. * से
4. * पर

Question Number : 176 Question Id : 54592751283 Question Type : MCQ Option Shuffling : Yes
Correct Marks : 1 Wrong Marks : 0.25

दिए गए वाक्य में उचित परसर्ग का चयन करके रिक्त स्थान की पूर्ति कीजिए।

रवि _____ चॉकलेट खाना बहुत पसंद है।

Options :

1. ✓ को
2. ✖ की
3. ✖ से
4. ✖ पर

Question Number : 177 Question Id : 54592751284 Question Type : MCQ Option Shuffling : Yes
Correct Marks : 1 Wrong Marks : 0.25

दिए गए वाक्य में रेखांकित भाग का सही कारक ज्ञात कीजिए।

रवि ने पकंज को पुस्तक दी।

Options :

1. ✓ कर्मकारक
2. ✖ कर्ता
3. ✖ करण
4. ✖ अपादान

Question Number : 177 Question Id : 54592751284 Question Type : MCQ Option Shuffling : Yes
Correct Marks : 1 Wrong Marks : 0.25

दिए गए वाक्य में रेखांकित भाग का सही कारक ज्ञात कीजिए।

रवि ने पकंज को पुस्तक दी।

Options :

1. ✓ कर्मकारक
2. ✖ कर्ता

3. * करण

4. * अपादान

Question Number : 178 Question Id : 54592751285 Question Type : MCQ Option Shuffling : Yes
Correct Marks : 1 Wrong Marks : 0.25

दिए गए शब्द का बहुवचन ज्ञात कीजिए।

धेनु

Options :

1. * धेनी

2. * धेनियाँ

3. ✓ धेतुएँ

4. * धेनें

Question Number : 178 Question Id : 54592751285 Question Type : MCQ Option Shuffling : Yes
Correct Marks : 1 Wrong Marks : 0.25

दिए गए शब्द का बहुवचन ज्ञात कीजिए।

धेनु

Options :

1. * धेनी

2. * धेनियाँ

3. ✓ धेतुएँ

4. * धेनें

Question Number : 179 Question Id : 54592751286 Question Type : MCQ Option Shuffling : Yes
Correct Marks : 1 Wrong Marks : 0.25

दिए गए शब्द का पुल्लिंग रूप ज्ञात कीजिए।

भवानी

Options :

1. ✖ भवा
2. ✔ भव
3. ✖ भावी
4. ✖ भवती

Question Number : 179 Question Id : 54592751286 Question Type : MCQ Option Shuffling : Yes
Correct Marks : 1 Wrong Marks : 0.25

दिए गए शब्द का पुल्लिंग रूप ज्ञात कीजिए।

भवानी

Options :

1. ✖ भवा
2. ✔ भव
3. ✖ भावी
4. ✖ भवती

Question Number : 180 Question Id : 54592751287 Question Type : MCQ Option Shuffling : Yes
Correct Marks : 1 Wrong Marks : 0.25

दिए गए शब्द का बहुवचन ज्ञात कीजिए।

ग्वाला

Options :

1. ✔ ग्वाले
2. ✖ ग्वालाएँ
3. ✖ ग्वालों
4. ✖ ग्वालयाँ

Question Number : 180 Question Id : 54592751287 Question Type : MCQ Option Shuffling : Yes
Correct Marks : 1 Wrong Marks : 0.25

दिए गए शब्द का बहुवचन ज्ञात कीजिए।

गवाला

Options :

1. ✓ गवाले
2. ✗ गवालाएँ
3. ✗ गवालों
4. ✗ गवालयाँ

General Hindi2

Group Number :	10
Group Id :	5459272540
Group Maximum Duration :	0
Group Minimum Duration :	120
Show Attended Group? :	No
Edit Attended Group? :	No
Break time:	0
Group Marks:	20
Is this Group for Examiner? :	No
Revisit allowed for group Instructions? :	Yes
Maximum Instruction Time:	0
Minimum Instruction Time:	0

General Hindi2

Section Id :	5459272540
Section Number :	1
Section type :	Online
Mandatory or Optional:	Mandatory
Number of Questions:	16
Number of Questions to be attempted:	16
Section Marks:	20

Sub-Section Number:	1
Sub-Section Id:	5459273047
Question Shuffling Allowed :	Yes

Correct Marks : 1 Wrong Marks : 0.25

दिए गए वाक्य का वह भाग ज्ञात करें जिसमें कोई त्रुटि है।

उन (1)/ मोटी लड़कों (2)/ और लड़कियों को (3)/ बुलाइए (4)

Options :

1. ✖ 1

2. ✔ 2

3. ✖ 3

4. ✖ 4

Question Number : 181 Question Id : 54592751288 Question Type : MCQ Option Shuffling : Yes

Correct Marks : 1 Wrong Marks : 0.25

दिए गए वाक्य का वह भाग ज्ञात करें जिसमें कोई त्रुटि है।

उन (1)/ मोटी लड़कों (2)/ और लड़कियों को (3)/ बुलाइए (4)

Options :

1. ✖ 1

2. ✔ 2

3. ✖ 3

4. ✖ 4

Question Number : 182 Question Id : 54592751289 Question Type : MCQ Option Shuffling : Yes

Correct Marks : 1 Wrong Marks : 0.25

निम्नलिखित में से कौन सा वाक्य सरल वाक्य नहीं है?

Options :

1. ✖ मंत्री जी के आते ही कार्यक्रम शुरू हो गया।

2. ✖ नौकरी के अलावा वह फोटोग्राफी भी करता है।

3. ✖ वह चाय के साथ बिस्किट भी लेगा।

4. ✔ समय पर भोजन मिले इसलिए शादी कर लो।

Question Number : 182 Question Id : 54592751289 Question Type : MCQ Option Shuffling : Yes

Correct Marks : 1 Wrong Marks : 0.25

निम्नलिखित में से कौन सा वाक्य सरल वाक्य नहीं है?

Options :

1. * मंत्री जी के आते ही कार्यक्रम शुरू हो गया।
2. * नौकरी के अलावा वह फोटोग्राफी भी करता है।
3. * वह चाय के साथ बिस्किट भी लेगा।
4. ✓ समय पर भोजन मिले इसलिए शादी कर लो।

Question Number : 183 Question Id : 54592751290 Question Type : MCQ Option Shuffling : Yes

Correct Marks : 1 Wrong Marks : 0.25

दिए गए वाक्य में रेखांकित भाग का काल ज्ञात कीजिए।

माली पौधों को सींच रहा था।

Options :

1. ✓ अपूर्ण भूतकाल
2. * पूर्ण भूतकाल
3. * सामान्य भूतकाल
4. * आसन्न भूतकाल

Question Number : 183 Question Id : 54592751290 Question Type : MCQ Option Shuffling : Yes

Correct Marks : 1 Wrong Marks : 0.25

दिए गए वाक्य में रेखांकित भाग का काल ज्ञात कीजिए।

माली पौधों को सींच रहा था।

Options :

1. ✓ अपूर्ण भूतकाल
2. * पूर्ण भूतकाल
3. * सामान्य भूतकाल
4. * आसन्न भूतकाल

Question Number : 184 Question Id : 54592751291 Question Type : MCQ Option Shuffling : Yes
Correct Marks : 1 Wrong Marks : 0.25

दिए गए वाक्य का पक्ष ज्ञात कीजिए।

भीड़ बढ़ती जा रही है।

Options :

1. * आरंभदयोतक पक्ष
2. ✓ प्रगतिबोधक
3. * सातप्यबोधक
4. * पूर्णतादयोतक

Question Number : 184 Question Id : 54592751291 Question Type : MCQ Option Shuffling : Yes
Correct Marks : 1 Wrong Marks : 0.25

दिए गए वाक्य का पक्ष ज्ञात कीजिए।

भीड़ बढ़ती जा रही है।

Options :

1. * आरंभदयोतक पक्ष
2. ✓ प्रगतिबोधक
3. * सातप्यबोधक
4. * पूर्णतादयोतक

Question Number : 185 Question Id : 54592751292 Question Type : MCQ Option Shuffling : Yes
Correct Marks : 1 Wrong Marks : 0.25

दिए गए वाक्य की वृत्ति ज्ञात कीजिए।

ऑफिस तो समय पर आना ही है।

Options :

1. ✓ बाध्यता सूचक
2. * संकेतार्थक
3. * अनिश्चियार्थक

4. * निश्चियार्थक

Question Number : 185 Question Id : 54592751292 Question Type : MCQ Option Shuffling : Yes
Correct Marks : 1 Wrong Marks : 0.25

दिए गए वाक्य की वृत्ति ज्ञात कीजिए।

ऑफिस तो समय पर आना ही है।

Options :

1. ✓ बाध्यता सूचक
2. * संकेतार्थक
3. * अनिश्चियार्थक
4. * निश्चियार्थक

Question Number : 186 Question Id : 54592751293 Question Type : MCQ Option Shuffling : Yes
Correct Marks : 1 Wrong Marks : 0.25

दिए गए वाक्य में रेखांकित भाग किस प्रकार का पुरुष है ज्ञात कीजिए।

मैंने तुम्हें कई बार चेतावनी दी है।

Options :

1. ✓ मध्यम
2. * उत्तम
3. * अन्य
4. * प्रथम

Question Number : 186 Question Id : 54592751293 Question Type : MCQ Option Shuffling : Yes
Correct Marks : 1 Wrong Marks : 0.25

दिए गए वाक्य में रेखांकित भाग किस प्रकार का पुरुष है ज्ञात कीजिए।

मैंने तुम्हें कई बार चेतावनी दी है।

Options :

1. ✓ मध्यम

2. * उत्तम

3. * अन्य

4. * प्रथम

Question Number : 187 Question Id : 54592751294 Question Type : MCQ Option Shuffling : Yes
Correct Marks : 1 Wrong Marks : 0.25

दिए गए वाक्य में उपयुक्त परसर्ग का उपयोग करके रिक्त स्थान की पूर्ति कीजिए।

उसने बकरी _____ पटरी _____ लेटे हुए देखा।

Options :

1. ✓ को, पर

2. * से, पर

3. * को, के

4. * को, से

Question Number : 187 Question Id : 54592751294 Question Type : MCQ Option Shuffling : Yes
Correct Marks : 1 Wrong Marks : 0.25

दिए गए वाक्य में उपयुक्त परसर्ग का उपयोग करके रिक्त स्थान की पूर्ति कीजिए।

उसने बकरी _____ पटरी _____ लेटे हुए देखा।

Options :

1. ✓ को, पर

2. * से, पर

3. * को, के

4. * को, से

Question Number : 188 Question Id : 54592751295 Question Type : MCQ Option Shuffling : Yes
Correct Marks : 1 Wrong Marks : 0.25

निम्नलिखित प्रश्न में, दिए गए चार विकल्पों में से, उस विकल्प का चयन करें जो दिए गए मुहावरे के अर्थ को सर्वश्रेष्ठ रूप से व्यक्त करता है।

सूक्ति बाण चलाना

Options :

1. * बहुत बातें बनाने वाले करते कुछ नहीं।
2. ✓ कोरा उपदेश देना।
3. * चतुर को और अधिक चतुर मिलना।
4. * अपनी औकात से बढ़चढ़ कर बातें करना।

Question Number : 188 Question Id : 54592751295 Question Type : MCQ Option Shuffling : Yes

Correct Marks : 1 Wrong Marks : 0.25

निम्नलिखित प्रश्न में, दिए गए चार विकल्पों में से, उस विकल्प का चयन करें जो दिए गए मुहावरे के अर्थ को सर्वश्रेष्ठ रूप से व्यक्त करता है।

सूक्ति बाण चलाना

Options :

1. * बहुत बातें बनाने वाले करते कुछ नहीं।
2. ✓ कोरा उपदेश देना।
3. * चतुर को और अधिक चतुर मिलना।
4. * अपनी औकात से बढ़चढ़ कर बातें करना।

Question Number : 189 Question Id : 54592751296 Question Type : MCQ Option Shuffling : Yes

Correct Marks : 1 Wrong Marks : 0.25

निम्नलिखित प्रश्न में, दिए गए चार विकल्पों में से, उस विकल्प का चयन करें जो दिए गए मुहावरे के अर्थ को सर्वश्रेष्ठ रूप से व्यक्त करता है।

बिजली सी कौंध जाना

Options :

1. * बिजली चमकना।
2. * बिजली गुल हो जाना।
3. * बिना सख्ती कोई काम सम्पन्न होना।
4. ✓ अचानक कुछ सूझना।

Question Number : 189 Question Id : 54592751296 Question Type : MCQ Option Shuffling : Yes
Correct Marks : 1 Wrong Marks : 0.25

निम्नलिखित प्रश्न में, दिए गए चार विकल्पों में से, उस विकल्प का चयन करें जो दिए गए मुहावरे के अर्थ को सर्वश्रेष्ठ रूप से व्यक्त करता है।

बिजली सी कौंध जाना

Options :

1. * बिजली चमकना।
2. * बिजली गुल हो जाना।
3. * बिना सख्ती कोई काम सम्पन्न होना।
4. ✓ अचानक कुछ सूझना।

Question Number : 190 Question Id : 54592751297 Question Type : MCQ Option Shuffling : Yes
Correct Marks : 1 Wrong Marks : 0.25

निम्नलिखित प्रश्न में, दिए गए चार विकल्पों में से, उस विकल्प का चयन करें जो दिए गए मुहावरे के अर्थ को सर्वश्रेष्ठ रूप से व्यक्त करता है।

अंधे के हाथ बटेर लगना

Options :

1. * बहुत अभिमान करना।
2. * अचानक बड़ी विपत्ति आना।
3. ✓ अयोग्य को अचानक अमूल्य वस्तु मिल जाना।
4. * गुस्सा प्रकट करना।

Question Number : 190 Question Id : 54592751297 Question Type : MCQ Option Shuffling : Yes
Correct Marks : 1 Wrong Marks : 0.25

निम्नलिखित प्रश्न में, दिए गए चार विकल्पों में से, उस विकल्प का चयन करें जो दिए गए मुहावरे के अर्थ को सर्वश्रेष्ठ रूप से व्यक्त करता है।

अंधे के हाथ बटेर लगना

Options :

1. * बहुत अभिमान करना।
2. * अचानक बड़ी विपत्ति आना।
3. ✓ अयोग्य को अचानक अमूल्य वस्तु मिल जाना।
4. * गुस्सा प्रकट करना।

Question Number : 191 Question Id : 54592751298 Question Type : MCQ Option Shuffling : Yes
Correct Marks : 1 Wrong Marks : 0.25

दिए गए शब्दों के समूह के लिए सही मुहावरे का चयन कीजिए।

कोई अधूरा रह गया काम याद आना।

Options :

1. ✓ तंद्राभंग होना
2. * जले पर नमक छिड़कना
3. * टका सा जवाब देना
4. * टांग अड़ाना

Question Number : 191 Question Id : 54592751298 Question Type : MCQ Option Shuffling : Yes
Correct Marks : 1 Wrong Marks : 0.25

दिए गए शब्दों के समूह के लिए सही मुहावरे का चयन कीजिए।

कोई अधूरा रह गया काम याद आना।

Options :

1. ✓ तंद्राभंग होना
2. ✖ जले पर नमक छिड़कना
3. ✖ टका सा जवाब देना
4. ✖ टांग अड़ाना

Question Number : 192 Question Id : 54592751299 Question Type : MCQ Option Shuffling : Yes
Correct Marks : 1 Wrong Marks : 0.25

दिए गए शब्दों के समूह के लिए सही मुहावरे का चयन कीजिए।

डटकर प्रतिरोध करना

Options :

1. ✖ उल्टा चोर कोतवाल को डाँटे
2. ✓ ईंट से ईंट बजाना
3. ✖ अक्ल बड़ी या भैंस
4. ✖ थोथा चना बाजे घना

Question Number : 192 Question Id : 54592751299 Question Type : MCQ Option Shuffling : Yes
Correct Marks : 1 Wrong Marks : 0.25

दिए गए शब्दों के समूह के लिए सही मुहावरे का चयन कीजिए।

डटकर प्रतिरोध करना

Options :

1. ✖ उल्टा चोर कोतवाल को डाँटे
2. ✓ ईंट से ईंट बजाना
3. ✖ अक्ल बड़ी या भैंस
4. ✖ थोथा चना बाजे घना

Question Number : 193 Question Id : 54592751300 Question Type : MCQ Option Shuffling : Yes
Correct Marks : 1 Wrong Marks : 0.25

दिए गए वाक्य के लिए सही लोकोक्ति का चयन करके रिक्त स्थान की पूर्ति कीजिए।

तुम्हारी थोड़ी सी आर्थिक सहायता मेरे लिए _____ है।

Options :

1. * तिल का ताड़
2. * कोल्हू का बैल
3. ✓ डूबते को तिनके का सहारा
4. * छठी का दूध याद दिलाना

Question Number : 193 Question Id : 54592751300 Question Type : MCQ Option Shuffling : Yes

Correct Marks : 1 Wrong Marks : 0.25

दिए गए वाक्य के लिए सही लोकोक्ति का चयन करके रिक्त स्थान की पूर्ति कीजिए।

तुम्हारी थोड़ी सी आर्थिक सहायता मेरे लिए _____ है।

Options :

1. * तिल का ताड़
2. * कोल्हू का बैल
3. ✓ डूबते को तिनके का सहारा
4. * छठी का दूध याद दिलाना

Question Number : 194 Question Id : 54592751301 Question Type : MCQ Option Shuffling : Yes

Correct Marks : 1 Wrong Marks : 0.25

दिए गए वाक्य में किस विराम चिह्न का उपयोग किया जाएगा ज्ञात कीजिए।

अशोक सिपाही मंत्र मुग्ध से देखते रह जाते हैं।

Options :

1. ✓ -
2. * ‘ ’
3. * !

4. ✖ _

Question Number : 194 Question Id : 54592751301 Question Type : MCQ Option Shuffling : Yes
Correct Marks : 1 Wrong Marks : 0.25

दिए गए वाक्य में किस विराम चिह्न का उपयोग किया जाएगा ज्ञात कीजिए।

अशोक सिपाही मंत्र मुग्ध से देखते रह जाते हैं।

Options :

1. ✔ -

2. ✖ ‘ ’

3. ✖ !

4. ✖ _

Question Number : 195 Question Id : 54592751302 Question Type : MCQ Option Shuffling : Yes
Correct Marks : 1 Wrong Marks : 0.25

जिस वाक्य में कुछ पूछा जा रहा हो उस वाक्य के अंत में किस विराम चिह्न का उपयोग किया जाता है?

Options :

1. ✖ ,

2. ✖ |

3. ✖ !

4. ✔ ?

Question Number : 195 Question Id : 54592751302 Question Type : MCQ Option Shuffling : Yes
Correct Marks : 1 Wrong Marks : 0.25

जिस वाक्य में कुछ पूछा जा रहा हो उस वाक्य के अंत में किस विराम चिह्न का उपयोग किया जाता है?

Options :

1. ✖ ,

2. ✖ |

3. ✖ !

4. ✔ ?

Sub-Section Number: 2
Sub-Section Id: 5459273048
Question Shuffling Allowed : Yes

Question Id : 54592751303 Question Type : COMPREHENSION Sub Question Shuffling Allowed : Yes Group Comprehension Questions : No

Question Numbers : (196 to 200)

Question Label : Comprehension

गद्यांश को ध्यानपूर्वक पढ़ें तथा प्रत्येक प्रश्न में चार विकल्पों में से सही विकल्प चुने।

सारे जगत ने मानव ही ऐसा प्राणी है जिसे वाक शक्ति मिली है वह बोल कर अपने विचारों का आदान-प्रदान कर लेता है। वाणी जहाँ एक और वरदान है वही श्राप है मीठा बोल कर हम किसी का भी हृद्य जीत सकते हैं। कड़वी बात किसी तरह से चुभ जाती है कि उसे कितना ही निकाल लो घाव बन जाती है। हमें अपनी वाणी को अपने वश में रखना चाहिए। मधुर वचन सुनने वाला और बोलने वाले दोनों को परम शांति और सुख पहुंचाते हैं। प्यार से बोलने वाले व्यक्तित्व की पहचान ही अलग होती है। मन हल्का और तरोताजा दिखता है। व्यक्ति प्रसन्न चित्त रहता है। जब वे स्वयं किसी को पीड़ा नहीं पहुंचाता तो उसे भी किसी प्रकार के कटु वचन सुनने को नहीं मिलते। मधुर भाषी व्यक्ति सबका प्रिय होता है तथा छोटे बड़े का आदर करता है। वह स्वभाव से भी नरम और विशिष्ट होता है। अनुचित बात पर भी वे चुप हो जाता है या मुस्कुरा देता है। जीने की कला उसे आती है। कही गई बात पर भी प्रायः झगड़े हुआ करते हैं, मीठे बोल ना जाने कितनी लड़ाइयां टाल देते हैं। कड़वे वचन बोलने वाला कड़वी बात कह तो जाता है पर उसे स्वयं ही बाद में दुख पहुंचाता है। पछतावा और आत्मग्लानि के सिवा उसके पास कुछ नहीं रहता। मधुर वचन बोलने से कितने अवगुण स्वयं ही आ जाते हैं। मृदुभाषी सभी से दोस्ती का हाथ बढ़ाते हैं।

Sub questions

Question Number : 196 Question Id : 54592751304 Question Type : MCQ Option Shuffling : Yes

Correct Marks : 1 Wrong Marks : 0.25

बोलने की शक्ति केवल किसे मिली है?

Options :

1. * पशु
2. * पक्षी
3. * वनस्पति
4. ✓ मनुष्य

Question Number : 197 Question Id : 54592751305 Question Type : MCQ Option Shuffling : Yes

Correct Marks : 1 Wrong Marks : 0.25

हम किसी का दिल कैसे जीत सकते हैं?

Options :

1. * कड़वा बोल कर
2. ✓ मीठा बोलकर
3. * खाना खा कर
4. * दवाई देकर

Question Number : 198 Question Id : 54592751306 Question Type : MCQ Option Shuffling : Yes

Correct Marks : 1 Wrong Marks : 0.25

कौन से व्यक्ति सबसे मित्रता का हाथ बढ़ाते हैं?

Options :

1. ✓ मृदुभाषी
2. * कर्कश वाणी
3. * निराशवादी
4. * असत्यवादी

Question Number : 199 Question Id : 54592751307 Question Type : MCQ Option Shuffling : Yes

Correct Marks : 1 Wrong Marks : 0.25

उपर्युक्त गद्यांश का शीर्षक क्या है?

Options :

1. * ऐसी वाणी बोलिए मन का आपा खोय
2. ✓ मीठी वाणी
3. * दुश्मन
4. * मित्रता

Question Number : 200 Question Id : 54592751308 Question Type : MCQ Option Shuffling : Yes

Correct Marks : 1 Wrong Marks : 0.25

कड़वी बात बोलने वाले के पास क्या बचता है?

Options :

1. ✓ पछतावा
2. ✖ खाना
3. ✖ कड़वे बादाम
4. ✖ सुख

Question Id : 54592751303 Question Type : COMPREHENSION Sub Question Shuffling Allowed : Yes Group Comprehension Questions : No

Question Numbers : (196 to 200)

Question Label : Comprehension

गद्यांश को ध्यानपूर्वक पढ़ें तथा प्रत्येक प्रश्न में चार विकल्पों में से सही विकल्प चुने।

सारे जगत ने मानव ही ऐसा प्राणी है जिसे वाक शक्ति मिली है वह बोल कर अपने विचारों का आदान-प्रदान कर लेता है। वाणी जहाँ एक और वरदान है वही श्राप है मीठा बोल कर हम किसी का भी हृदय जीत सकते हैं। कड़वी बात किसी तरह से चुभ जाती है कि उसे कितना ही निकाल लो घाव बन जाती है। हमें अपनी वाणी को अपने वश में रखना चाहिए। मधुर वचन सुनने वाला और बोलने वाले दोनों को परम शांति और सुख पहुंचाते हैं। प्यार से बोलने वाले व्यक्तित्व की पहचान ही अलग होती है। मन हल्का और तरौताजा दिखता है। व्यक्ति प्रसन्न चित्त रहता है। जब वे स्वयं किसी को पीड़ा नहीं पहुंचाता तो उसे भी किसी प्रकार के कटु वचन सुनने को नहीं मिलते। मधुर भाषी व्यक्ति सबका प्रिय होता है तथा छोटे बड़े का आदर करता है। वह स्वभाव से भी नरम और विशिष्ट होता है। अनुचित बात पर भी वे चुप हो जाता है या मुस्कुरा देता है। जीने की कला उसे आती है। कही गई बात पर भी प्रायः झगड़े हुआ करते हैं, मीठे बोल ना जाने कितनी लड़ाइयां टाल देते हैं। कड़वे वचन बोलने वाला कड़वी बात कह तो जाता है पर उसे स्वयं ही बाद में दुख पहुंचाता है। पछतावा और आत्मग्लानि के सिवा उसके पास कुछ नहीं रहता। मधुर वचन बोलने से कितने अवगुण स्वयं ही आ जाते हैं। मृदुभाषी सभी से दोस्ती का हाथ बढ़ाते हैं।

Sub questions

Question Number : 196 Question Id : 54592751304 Question Type : MCQ Option Shuffling : Yes

Correct Marks : 1 Wrong Marks : 0.25

बोलने की शक्ति केवल किसे मिली है?

Options :

1. ✖ पशु
2. ✖ पक्षी
3. ✖ वनस्पति
4. ✔ मनुष्य

Question Number : 197 Question Id : 54592751305 Question Type : MCQ Option Shuffling : Yes
Correct Marks : 1 Wrong Marks : 0.25

हम किसी का दिल कैसे जीत सकते हैं?

Options :

1. ✖ कड़वा बोल कर
2. ✔ मीठा बोलकर
3. ✖ खाना खा कर
4. ✖ दवाई देकर

Question Number : 198 Question Id : 54592751306 Question Type : MCQ Option Shuffling : Yes
Correct Marks : 1 Wrong Marks : 0.25

कौन से व्यक्ति सबसे मित्रता का हाथ बढ़ाते हैं?

Options :

1. ✔ मृदुभाषी
2. ✖ कर्कश वाणी
3. ✖ निराशवादी
4. ✖ असत्यवादी

Question Number : 199 Question Id : 54592751307 Question Type : MCQ Option Shuffling : Yes
Correct Marks : 1 Wrong Marks : 0.25

उपर्युक्त गद्यांश का शीर्षक क्या है?

Options :

1. ✖ ऐसी वाणी बोलिए मन का आपा खोय
2. ✔ मीठी वाणी

3. * दुश्मन

4. * मित्रता

Question Number : 200 Question Id : 54592751308 Question Type : MCQ Option Shuffling : Yes

Correct Marks : 1 Wrong Marks : 0.25

कड़वी बात बोलने वाले के पास क्या बचता है?

Options :

1. ✓ पछतावा

2. * खाना

3. * कड़वे बादाम

4. * सुख