

Education Consultant India Ltd.

Notations :

1.Options shown in green color and with ✓ icon are correct.

2.Options shown in red color and with ✘ icon are incorrect.

Question Paper Name:	Grade IV DASS 30th September 2019 Shift 1
Subject Name:	Grade IV DASS
Creation Date:	2019-09-30 15:35:32
Duration:	120
Total Marks:	200
Display Marks:	Yes
Share Answer Key With Delivery Engine:	No
Actual Answer Key:	Yes
Calculator:	None
Magnifying Glass Required?:	No
Ruler Required?:	No
Eraser Required?:	No
Scratch Pad Required?:	No
Rough Sketch/Notepad Required?:	No
Protractor Required?:	No
Show Watermark on Console?:	Yes
Highlighter:	No
Auto Save on Console?:	No

Mental Ability1

Group Number :	1
Group Id :	5459272351
Group Maximum Duration :	0
Group Minimum Duration :	0
Show Attended Group? :	No
Edit Attended Group? :	No
Break time:	0
Group Marks:	20
Is this Group for Examiner?:	No
Revisit allowed for group Instructions? :	Yes
Maximum Instruction Time:	0
Minimum Instruction Time:	0

Mental Ability1

Section Id :	5459272351
Section Number :	1

Section type :	Online
Mandatory or Optional:	Mandatory
Number of Questions:	20
Number of Questions to be attempted:	20
Section Marks:	20

Sub-Section Number:	1
Sub-Section Id:	5459272821
Question Shuffling Allowed :	Yes

Question Number : 1 Question Id : 54592747471 Question Type : MCQ Option Shuffling : Yes
Correct Marks : 1 Wrong Marks : 0.25

A series is given with one term missing. Select the correct alternative from the given ones that will complete the series.

LG, NE, PC, RA , ?

Options :

1. ✖ TX
2. ✖ UZ
3. ✔ TY
4. ✖ UY

Question Number : 1 Question Id : 54592747471 Question Type : MCQ Option Shuffling : Yes
Correct Marks : 1 Wrong Marks : 0.25

एक अनुक्रम दिया गया है, जिसमें से एक पद लुप्त है। दिए गए विकल्पों में से वह सही विकल्प चुनिए, जो अनुक्रम को पूरा करे।

LG, NE, PC, RA , ?

Options :

1. ✖ TX
2. ✖ UZ
3. ✔ TY
4. ✖ UY

Question Number : 2 Question Id : 54592747472 Question Type : MCQ Option Shuffling : Yes

Correct Marks : 1 Wrong Marks : 0.25

A series is given with one term missing. Select the correct alternative from the given ones that will complete the series.

LR12, OO15, RL21 , ? , XF42

Options :

1. ✓ UI30

2. ✗ VH30

3. ✗ UI31

4. ✗ VH31

Question Number : 2 Question Id : 54592747472 Question Type : MCQ Option Shuffling : Yes

Correct Marks : 1 Wrong Marks : 0.25

एक अनुक्रम दिया गया है, जिसमें से एक पद लुप्त है। दिए गए विकल्पों में से वह सही विकल्प चुनिए, जो अनुक्रम को पूरा करे।

LR12, OO15, RL21 , ? , XF42

Options :

1. ✓ UI30

2. ✗ VH30

3. ✗ UI31

4. ✗ VH31

Question Number : 3 Question Id : 54592747473 Question Type : MCQ Option Shuffling : Yes

Correct Marks : 1 Wrong Marks : 0.25

A series is given with one term missing. Select the correct alternative from the given ones that will complete the series.

R7K, N8R, J15Y , ? , B38M

Options :

1. ✖ F23G
2. ✖ F22F
3. ✖ F22G
4. ✔ F23F

Question Number : 3 Question Id : 54592747473 Question Type : MCQ Option Shuffling : Yes

Correct Marks : 1 Wrong Marks : 0.25

एक अनुक्रम दिया गया है, जिसमें से एक पद लुप्त है। दिए गए विकल्पों में से वह सही विकल्प चुनिए, जो अनुक्रम को पूरा करे।

R7K, N8R, J15Y , ? , B38M

Options :

1. ✖ F23G
2. ✖ F22F
3. ✖ F22G
4. ✔ F23F

Question Number : 4 Question Id : 54592747474 Question Type : MCQ Option Shuffling : Yes

Correct Marks : 1 Wrong Marks : 0.25

In the following question, select the odd word from the given alternatives.

Options :

1. ✖ Steering
2. ✖ Seats
3. ✖ Tyre
4. ✔ Truck

Question Number : 4 Question Id : 54592747474 Question Type : MCQ Option Shuffling : Yes

Correct Marks : 1 Wrong Marks : 0.25

निम्नलिखित प्रश्न में दिए गए विकल्पों में से विषम शब्द को चुनिए।

Options :

1. ✖ स्टीयरिंग
2. ✖ गद्दी
3. ✖ पहिया
4. ✔ ट्रक

Question Number : 5 Question Id : 54592747475 Question Type : MCQ Option Shuffling : Yes
Correct Marks : 1 Wrong Marks : 0.25

In the following question, select the odd letter/letters from the given alternatives.

Options :

1. ✖ DHKP
2. ✔ GKMS
3. ✖ TXAF
4. ✖ KORW

Question Number : 5 Question Id : 54592747475 Question Type : MCQ Option Shuffling : Yes
Correct Marks : 1 Wrong Marks : 0.25

निम्नलिखित प्रश्न में दिए गए विकल्पों में से विषम अक्षर/अक्षरों को चुनिए।

Options :

1. ✖ DHKP
2. ✔ GKMS
3. ✖ TXAF
4. ✖ KORW

Question Number : 6 Question Id : 54592747476 Question Type : MCQ Option Shuffling : Yes
Correct Marks : 1 Wrong Marks : 0.25

निम्नलिखित प्रश्न में दिए गए विकल्पों में से विषम अक्षर/अक्षरों को चुनिए।

Options :

1. ✘ BDHP
2. ✘ KMQY
3. ✔ ACHO
4. ✘ IKOW

Question Number : 6 Question Id : 54592747476 Question Type : MCQ Option Shuffling : Yes
Correct Marks : 1 Wrong Marks : 0.25

In the following question, select the odd letter/letters from the given alternatives.

Options :

1. ✘ BDHP
2. ✘ KMQY
3. ✔ ACHO
4. ✘ IKOW

Question Number : 7 Question Id : 54592747477 Question Type : MCQ Option Shuffling : Yes
Correct Marks : 1 Wrong Marks : 0.25

In the following question, select the related words from the given alternatives.

Paper : Wood :: Cloth : ?

Options :

1. ✘ Mill
2. ✘ Wash
3. ✔ Cotton
4. ✘ White

Question Number : 7 Question Id : 54592747477 Question Type : MCQ Option Shuffling : Yes
Correct Marks : 1 Wrong Marks : 0.25

निम्नलिखित प्रश्न में दिए गए विकल्पों में से संबंधित शब्दों को चुनिए।

कागज : लकड़ी :: कपड़ा : ?

Options :

1. ✖ मिल
2. ✖ धोना
3. ✓ कपास
4. ✖ सफेद

Question Number : 8 Question Id : 54592747478 Question Type : MCQ Option Shuffling : Yes
Correct Marks : 1 Wrong Marks : 0.25

In the following question, select the related word pair from the given alternatives.

Spade : Dig :: ?

Options :

1. ✓ Tongs : Hold
2. ✖ Pen : Rub
3. ✖ Binocular : Shoot
4. ✖ Feed : Spoon

Question Number : 8 Question Id : 54592747478 Question Type : MCQ Option Shuffling : Yes
Correct Marks : 1 Wrong Marks : 0.25

निम्नलिखित प्रश्न में दिए गए विकल्पों में से संबंधित शब्द युग्म को चुनिए।

कुदाली : खोदना :: ?

Options :

1. ✓ चिमटा : पकडना

2. ✘ कलम : मिटाना

3. ✘ दुरबीन : मारना

4. ✘ खाना : चम्मच

Question Number : 9 Question Id : 54592747479 Question Type : MCQ Option Shuffling : Yes

Correct Marks : 1 Wrong Marks : 0.25

In the following question, select the related word pair from the given alternatives.

Zoo : Animals :: ?

Options :

1. ✘ Hospital : Treatment

2. ✘ Medicine : Dispensary

3. ✓ Garage : Car

4. ✘ Apiary : Birds

Question Number : 9 Question Id : 54592747479 Question Type : MCQ Option Shuffling : Yes

Correct Marks : 1 Wrong Marks : 0.25

निम्नलिखित प्रश्न में दिए गए विकल्पों में से संबंधित शब्द युग्म को चुनिए।

चिडियाघर : जानवर :: ?

Options :

1. ✘ अस्पताल : उपचार

2. ✘ दवाई : औषधालय

3. ✓ गैरेज : गाड़ी

4. ✘ मधुमक्षिकालय : पक्षी

Question Number : 10 Question Id : 54592747480 Question Type : MCQ Option Shuffling : Yes
Correct Marks : 1 Wrong Marks : 0.25

In a certain code language, 'MUMBAI' is written as '383421', 'GOA' is written as '762'. What is the code for 'BOMUI' in that code language?

Options :

1. ✖ 68341
2. ✖ 26871
3. ✖ 43612
4. ✔ 46381

Question Number : 10 Question Id : 54592747480 Question Type : MCQ Option Shuffling : Yes
Correct Marks : 1 Wrong Marks : 0.25

एक विशिष्ट कोड भाषा में, 'MUMBAI' को '383421' लिखा जाता है, 'GOA' को '762' लिखा जाता है। इस कोड भाषा में 'BOMUI' का कोड क्या है?

Options :

1. ✖ 68341
2. ✖ 26871
3. ✖ 43612
4. ✔ 46381

Question Number : 11 Question Id : 54592747481 Question Type : MCQ Option Shuffling : Yes
Correct Marks : 1 Wrong Marks : 0.25

In a certain code language, 'ROAD' is called 'BOOK', 'BOOK' is called 'TABLE', 'TABLE' is called 'SKY', 'SKY' is called 'LAND', 'LAND' is called 'TYRE'. Where do birds fly?

Options :

1. ✔ Land
2. ✖ Table

3. * Book

4. * Tyre

Question Number : 11 Question Id : 54592747481 Question Type : MCQ Option Shuffling : Yes

Correct Marks : 1 Wrong Marks : 0.25

एक विशिष्ट कोड भाषा में, 'सडक' को 'पुस्तक' कहा जाता है, 'पुस्तक' को 'मेज' कहा जाता है, 'मेज' को 'आकाश' कहा जाता है, 'आकाश' को 'भूमि' कहा जाता है, 'भूमि' को 'टायर' कहा जाता है। पक्षी कहाँ उड़ते हैं?

Options :

1. ✓ भूमि

2. * मेज

3. * पुस्तक

4. * टायर

Question Number : 12 Question Id : 54592747482 Question Type : MCQ Option Shuffling : Yes

Correct Marks : 1 Wrong Marks : 0.25

In a certain code language, 'FILE' is called 'RED', 'RED' is called 'YELLOW', 'YELLOW' is called 'WOOD', 'WOOD' is called 'BIKE', 'BIKE' is called 'WHEEL'. Table is made up of what?

Options :

1. * Wood

2. ✓ Bike

3. * Wheel

4. * Yellow

Question Number : 12 Question Id : 54592747482 Question Type : MCQ Option Shuffling : Yes

Correct Marks : 1 Wrong Marks : 0.25

एक विशिष्ट कोड भाषा में, 'फाईल' को 'लाल' कहा जाता है, 'लाल' को 'पीला' कहा जाता है, 'पीला' को 'लकड़ी' कहा जाता है, 'लकड़ी' को 'बाईक' कहा जाता है, 'बाईक' को 'पहिया' कहा जाता है। मेज किस चीज की बनी हुई होती है?

Options :

1. ✖ लकड़ी
2. ✔ बाईक
3. ✖ पहिया
4. ✖ पीला

Question Number : 13 Question Id : 54592747483 Question Type : MCQ Option Shuffling : Yes
Correct Marks : 1 Wrong Marks : 0.25

Five boys B1, B2, B3, B4 and B5 are compared on basis of their height. B4 is taller than B5. B4 is shorter than B2. B3 is shorter than B1. B3 is taller than B2. Who is the shortest among them?

Options :

1. ✔ B5
2. ✖ B4
3. ✖ B2
4. ✖ B3

Question Number : 13 Question Id : 54592747483 Question Type : MCQ Option Shuffling : Yes
Correct Marks : 1 Wrong Marks : 0.25

पांच लड़कों B1, B2, B3, B4 तथा B5 की तुलना उनकी ऊँचाई के आधार पर की जाती है। B4, B5 से लंबा है। B4, B2 से छोटा है। B3, B1 से छोटा है। B3, B2 से लंबा है। उनमें से सबसे छोटा कौन है?

Options :

1. ✔ B5
2. ✖ B4

3. ✖ B2

4. ✖ B3

Question Number : 14 Question Id : 54592747484 Question Type : MCQ Option Shuffling : Yes

Correct Marks : 1 Wrong Marks : 0.25

5 stones P1, P2, P3, P4 and P5 are weighed. Weight of P1 is double of P2. Weight of P2 is 5 times of P3. Weight of P3 is one third of P4. Weight of P4 is 9 times of P5. Which of the following relation is correct about their weights?

Options :

1. ✖ $P2 = 3 P3$

2. ✔ $P2 = 15 P5$

3. ✖ $P4 = 3 P5$

4. ✖ $P1 = 6 P5$

Question Number : 14 Question Id : 54592747484 Question Type : MCQ Option Shuffling : Yes

Correct Marks : 1 Wrong Marks : 0.25

5 पत्थर P1, P2, P3, P4 तथा P5 का वजन किया जाता है। P1 का वजन P2 से दोगुना है। P2 का वजन P3 का 5 गुना है। P3 का वजन P4 का एक तिहाई है। P4 का वजन P5 का 9 गुना है। उनके वजन के संदर्भ में निम्नलिखित में से कौन सा संबंध सही है?

Options :

1. ✖ $P2 = 3 P3$

2. ✔ $P2 = 15 P5$

3. ✖ $P4 = 3 P5$

4. ✖ $P1 = 6 P5$

Question Number : 15 Question Id : 54592747485 Question Type : MCQ Option Shuffling : Yes

Correct Marks : 1 Wrong Marks : 0.25

Seven cars C1, C2, C3, C4, C5, C6 and C7 have different maximum speeds. C7 has more speed than C1. C1 has more speed than C2. If C3 has the highest maximum speed among them, then C5 has the lowest maximum speed among them. If C4 has the highest maximum speed among them, then C2 or C6 will have the lowest maximum speed among them. If the maximum speed of C4 is the second highest, then which of the following statement is correct?

Options :

1. * C7 has more speed than C6
2. * C6 has more speed than C1
3. ✓ C5 has less speed than C6
4. * C7 has more speed than C3

Question Number : 15 Question Id : 54592747485 Question Type : MCQ Option Shuffling : Yes

Correct Marks : 1 Wrong Marks : 0.25

सात कार C1, C2, C3, C4, C5, C6 तथा C7 की अलग-अलग अधिकतम गति हैं। C7 की गति C1 से अधिक है। C1 की गति C2 से अधिक है। यदि उनमें से C3 की अधिकतम गति सबसे अधिक है, तो उनमें से C5 की अधिकतम गति सबसे कम है। यदि उनमें से C4 की अधिकतम गति सबसे अधिक है, तो उनमें से C2 या C6 की अधिकतम गति सबसे कम होगी। यदि C4 की अधिकतम गति दूसरी सबसे अधिक है, तो निम्नलिखित में से कौन सा कथन सही है?

Options :

1. * C7 की गति C6 से अधिक है
2. * C6 की गति C1 से अधिक है
3. ✓ C5 की गति C6 से कम है
4. * C7 की गति C3 से अधिक है

Question Number : 16 Question Id : 54592747486 Question Type : MCQ Option Shuffling : Yes

Correct Marks : 1 Wrong Marks : 0.25

Height of six teachers L, M, N, O, P and T are compared.

Height of L is more than O but less than T. Height of N is less than O but more than P. Which of the following statement is not correct?

Options :

1. ✖ Height of L is more than P
2. ✔ Height of T is less than M
3. ✖ Height of N is less than O
4. ✖ Height of O is more than N but less than L

Question Number : 16 Question Id : 54592747486 Question Type : MCQ Option Shuffling : Yes

Correct Marks : 1 Wrong Marks : 0.25

छह शिक्षको L, M, N, O, P तथा T की ऊँचाई की तुलना की गयी है।

L की ऊँचाई O से अधिक है परंतु T से कम है। N की ऊँचाई O से कम है परंतु P से अधिक है। निम्नलिखित में से कौन सा कथन सही नहीं है?

Options :

1. ✖ L की ऊँचाई P से अधिक है
2. ✔ T की ऊँचाई M से कम है
3. ✖ N की ऊँचाई O से कम है
4. ✖ O की ऊँचाई N से अधिक है परंतु L से कम है

Question Number : 17 Question Id : 54592747487 Question Type : MCQ Option Shuffling : Yes

Correct Marks : 1 Wrong Marks : 0.25

Marks of eight boys E, F, G, H, I, J, K and L are compared. Marks of only three boys are more than E and J both. Marks of K is more than the marks of only L. Marks of F are more than G. Marks of H are less than the marks of J. Which of the following is the correct sequence of their marks?

Options :

1. * $F > G > I > J = E > K > H > L$

2. * $I > F > G > J = E > H > L > K$

3. ✓ $F > I > G > E = J > H > K > L$

4. * $F > G > I = E = J > K > L > H$

Question Number : 17 Question Id : 54592747487 Question Type : MCQ Option Shuffling : Yes

Correct Marks : 1 Wrong Marks : 0.25

आठ लड़को E, F, G, H, I, J, K तथा L के अंको की तुलना की गयी है। केवल तीन लड़को के अंक E तथा J दोनों से अधिक है। K के अंक केवल L के अंको से अधिक है। F के अंक G से अधिक हैं। H के अंक J के अंको से कम हैं। निम्नलिखित में से कौन सा उनके अंको का सही क्रम है?

Options :

1. * $F > G > I > J = E > K > H > L$

2. * $I > F > G > J = E > H > L > K$

3. ✓ $F > I > G > E = J > H > K > L$

4. * $F > G > I = E = J > K > L > H$

Question Number : 18 Question Id : 54592747488 Question Type : MCQ Option Shuffling : Yes

Correct Marks : 1 Wrong Marks : 0.25

In the following question below are given some statements followed by some conclusions based on those statements. Taking the given statements to be true even if they seem to be at variance from commonly known facts. Read all the conclusions and then decide which of the given conclusion logically follows the given statements.

Statements:

- I. Some grey are old.
- II. All old are tree.

Conclusions:

- I. Some grey are tree.
- II. Some tree are grey.
- III. Some tree are old.

Options :

- 1. ✖ Both conclusion I and II follows
- 2. ✖ Both conclusion II and III follows
- 3. ✔ All conclusion follows
- 4. ✖ Neither conclusion follows

Question Number : 18 Question Id : 54592747488 Question Type : MCQ Option Shuffling : Yes
Correct Marks : 1 Wrong Marks : 0.25

नीचे दिए गए प्रश्न में कुछ कथन और उनके बाद उन कथनों पर आधारित कुछ निष्कर्ष दिए गए हैं। दिए गए कथनों को सही माने, चाहे उनमें सामान्य ज्ञात तथ्यों से भिन्नता हो। सभी निष्कर्ष पढ़ें और फिर निर्धारित करें कि दिए गए कौन से निष्कर्ष, दिए गए कथनों के आधार पर युक्तिसंगत हैं।

कथन:

- I. कुछ ग्रे, वृद्ध हैं।
- II. सभी वृद्ध, पेड हैं।

निष्कर्ष:

- I. कुछ ग्रे, पेड हैं।
- II. कुछ पेड, ग्रे हैं।
- III. कुछ पेड, वृद्ध हैं।

Options :

1. * दोनों निष्कर्ष I तथा II अनुसरण करते हैं
2. * दोनों निष्कर्ष II तथा III अनुसरण करते हैं
3. ✓ सभी निष्कर्ष अनुसरण करते हैं
4. * कोई भी निष्कर्ष अनुसरण नहीं करता है

Question Number : 19 Question Id : 54592747489 Question Type : MCQ Option Shuffling : Yes
Correct Marks : 1 Wrong Marks : 0.25

In the following question below are given some statements followed by some conclusions based on those statements. Taking the given statements to be true even if they seem to be at variance from commonly known facts. Read all the conclusions and then decide which of the given conclusion logically follows the given statements.

Statements:

- I. No P is Q.
- II. All Q are B.

Conclusions:

- I. Some P are B.
- II. Some B are P.
- III. Some B are not P.

Options :

- 1. ✓ Only conclusion III follows
- 2. ✗ Only conclusion I follows
- 3. ✗ Both conclusion I and II follows
- 4. ✗ Both conclusion II and III follows

Question Number : 19 Question Id : 54592747489 Question Type : MCQ Option Shuffling : Yes
Correct Marks : 1 Wrong Marks : 0.25

नीचे दिए गए प्रश्न में कुछ कथन और उनके बाद उन कथनों पर आधारित कुछ निष्कर्ष दिए गए हैं। दिए गए कथनों को सही माने, चाहे उनमें सामान्य ज्ञात तथ्यों से भिन्नता हो। सभी निष्कर्ष पढ़ें और फिर निर्धारित करें कि दिए गए कौन से निष्कर्ष, दिए गए कथनों के आधार पर युक्तिसंगत हैं।

कथन:

- I. कोई P, Q नहीं है।
- II. सभी Q, B हैं।

निष्कर्ष:

- I. कुछ P, B हैं।
- II. कुछ B, P हैं।
- III. कुछ B, P नहीं हैं।

Options :

1. ✓ केवल निष्कर्ष III अनुसरण करता है
2. * केवल निष्कर्ष I अनुसरण करता है
3. * दोनों निष्कर्ष I तथा II अनुसरण करते हैं
4. * दोनों निष्कर्ष II तथा III अनुसरण करते हैं

Question Number : 20 Question Id : 54592747490 Question Type : MCQ Option Shuffling : Yes

Correct Marks : 1 Wrong Marks : 0.25

In the following question, select the missing number from the given series.

15, 29, 56, 109, 214, ?

Options :

1. ✖ 201

2. ✖ 359

3. ✖ 104

4. ✔ 423

Question Number : 20 Question Id : 54592747490 Question Type : MCQ Option Shuffling : Yes
Correct Marks : 1 Wrong Marks : 0.25

निम्नलिखित प्रश्न में दी गई श्रृंखला में से लुप्त अंक ज्ञात कीजिए।

15, 29, 56, 109, 214, ?

Options :

1. ✖ 201

2. ✖ 359

3. ✖ 104

4. ✔ 423

Mental Ability2

Group Number :	2
Group Id :	5459272352
Group Maximum Duration :	0
Group Minimum Duration :	0
Show Attended Group? :	No
Edit Attended Group? :	No
Break time:	0
Group Marks:	20
Is this Group for Examiner?:	No
Revisit allowed for group Instructions? :	Yes
Maximum Instruction Time:	0
Minimum Instruction Time:	0

Mental Ability2

Section Id :	5459272352
Section Number :	1
Section type :	Online

Mandatory or Optional:	Mandatory
Number of Questions:	20
Number of Questions to be attempted:	20
Section Marks:	20

Sub-Section Number:	1
Sub-Section Id:	5459272822
Question Shuffling Allowed :	Yes

Question Number : 21 Question Id : 54592747491 Question Type : MCQ Option Shuffling : Yes
Correct Marks : 1 Wrong Marks : 0.25

In the following question, select the missing number from the given series.

11, 34, 104, 315, 949, ?

Options :

1. ✘ 990

2. ✔ 2852

3. ✘ 1001

4. ✘ 1332

Question Number : 21 Question Id : 54592747491 Question Type : MCQ Option Shuffling : Yes
Correct Marks : 1 Wrong Marks : 0.25

निम्नलिखित प्रश्न में दी गई श्रृंखला में से लुप्त अंक ज्ञात कीजिए।

11, 34, 104, 315, 949, ?

Options :

1. ✘ 990

2. ✔ 2852

3. ✘ 1001

4. ✘ 1332

Question Number : 22 Question Id : 54592747492 Question Type : MCQ Option Shuffling : Yes
Correct Marks : 1 Wrong Marks : 0.25

A series is given with one term wrong. Select that wrong term from the given alternatives.

4, 7, 11, 16, 23, 29, 37

Options :

1. ✖ 16

2. ✔ 23

3. ✖ 11

4. ✖ 29

Question Number : 22 Question Id : 54592747492 Question Type : MCQ Option Shuffling : Yes

Correct Marks : 1 Wrong Marks : 0.25

एक अनुक्रम दिया गया है, जिसमें से एक पद गलत है। दिए गए विकल्पों में से उस गलत पद को चुनिए।

4, 7, 11, 16, 23, 29, 37

Options :

1. ✖ 16

2. ✔ 23

3. ✖ 11

4. ✖ 29

Question Number : 23 Question Id : 54592747493 Question Type : MCQ Option Shuffling : Yes

Correct Marks : 1 Wrong Marks : 0.25

A series is given with one term wrong. Select that wrong term from the given alternatives.

138, 135, 131, 128, 125, 121, 117

Options :

1. ✔ 125

2. ✖ 121

3. ✖ 128

4. ✖ 131

Question Number : 23 Question Id : 54592747493 Question Type : MCQ Option Shuffling : Yes

Correct Marks : 1 Wrong Marks : 0.25

एक अनुक्रम दिया गया है, जिसमें से एक पद गलत है। दिए गए विकल्पों में से उस गलत पद को चुनिए।

138, 135, 131, 128, 125, 121, 117

Options :

1. ✔ 125

2. ✖ 121

3. ✖ 128

4. ✖ 131

Question Number : 24 Question Id : 54592747494 Question Type : MCQ Option Shuffling : Yes

Correct Marks : 1 Wrong Marks : 0.25

In the following question, select the number which can be placed at the sign of question mark (?) from the given alternatives.

2	3
4	51

5	7
2	86

1	4
3	?

Options :

1. ✖ 47

2. ✖ 49

3. ✔ 50

4. ✖ 57

Question Number : 24 Question Id : 54592747494 Question Type : MCQ Option Shuffling : Yes
Correct Marks : 1 Wrong Marks : 0.25

निम्नलिखित प्रश्न में दिए गए विकल्पों में से प्रश्न चिन्ह (?) के स्थान पर आने वाली संख्या को चुनिए।

2	3
4	51

5	7
2	86

1	4
3	?

Options :

1. ✖ 47
2. ✖ 49
3. ✔ 50
4. ✖ 57

Question Number : 25 Question Id : 54592747495 Question Type : MCQ Option Shuffling : Yes
Correct Marks : 1 Wrong Marks : 0.25

By Interchanging which two signs the equation will be correct?

$$7 \div 4 \times 6 + 2 - 1 = 18$$

Options :

1. ✖ \div and \times
2. ✖ \times and $+$
3. ✔ \div and $+$
4. ✖ $+$ and $-$

Question Number : 25 Question Id : 54592747495 Question Type : MCQ Option Shuffling : Yes
Correct Marks : 1 Wrong Marks : 0.25

किन दो चिह्नों को आपस में परस्पर बदलने पर समीकरण सही हो जाएगा?

$$7 \div 4 \times 6 + 2 - 1 = 18$$

Options :

1. * \div तथा *
2. * \times तथा +
3. ✓ \div तथा +
4. * + तथा -

Question Number : 26 Question Id : 54592747496 Question Type : MCQ Option Shuffling : Yes
Correct Marks : 1 Wrong Marks : 0.25

After interchanging the given two signs, what will be the value of the given equation?

\times and \div

$$16 + 15 \div 3 - 12 \times 6 + 1$$

Options :

1. * 64
2. * 82
3. ✓ 60
4. * 62

Question Number : 26 Question Id : 54592747496 Question Type : MCQ Option Shuffling : Yes
Correct Marks : 1 Wrong Marks : 0.25

दिये गए दो चिह्नों को आपस में परस्पर बदलने पर, दिये गए समीकरण का मान क्या होगा?

× तथा ÷

$$16 + 15 \div 3 - 12 \times 6 + 1$$

Options :

1. ✖ 64

2. ✖ 82

3. ✔ 60

4. ✖ 62

Question Number : 27 Question Id : 54592747497 Question Type : MCQ Option Shuffling : Yes

Correct Marks : 1 Wrong Marks : 0.25

By interchanging the given two signs which of the following equation will not be correct?

+ and ÷

Note: For this question, discrepancy is found in question/answer. So, this question is ignored for all candidates.

Options :

1. $5 \div 3 \times 2 + 2 - 6 = 2$

2. $31 \times 36 + 9 - 7 \div 1 = 211$

3. $3 \div 4 - 9 + 7 \times 14 = 11$

4. $17 \times 4 \div 6 + 2 - 3 = 68$

Question Number : 27 Question Id : 54592747497 Question Type : MCQ Option Shuffling : Yes

Correct Marks : 1 Wrong Marks : 0.25

दिए गए दो चिहनों को आपस में परस्पर बदलने पर निम्नलिखित में से कौन सा समीकरण सही नहीं होगा?

+ तथा ÷

Note: For this question, discrepancy is found in question/answer. So, this question is ignored for all candidates.

Options :

1. $5 \div 3 \times 2 + 2 - 6 = 2$

2. $31 \times 36 + 9 - 7 \div 1 = 211$

3. $3 \div 4 - 9 + 7 \times 14 = 11$

4. $17 \times 4 \div 6 + 2 - 3 = 68$

Question Number : 28 Question Id : 54592747498 Question Type : MCQ Option Shuffling : Yes

Correct Marks : 1 Wrong Marks : 0.25

If $15 @ 12 \# 13 = 193$ and $11 \# 16 @ 17 = 283$, then $14 @ 15 \# 19 = ?$

Options :

1. ✖ 219

2. ✔ 229

3. ✖ 231

4. ✖ 197

Question Number : 28 Question Id : 54592747498 Question Type : MCQ Option Shuffling : Yes

Correct Marks : 1 Wrong Marks : 0.25

यदि $15 @ 12 \# 13 = 193$ तथा $11 \# 16 @ 17 = 283$ हो, तो $14 @ 15 \# 19 = ?$

Options :

1. ✖ 219

2. ✔ 229

3. ✖ 231

4. ✖ 197

Question Number : 29 Question Id : 54592747499 Question Type : MCQ Option Shuffling : Yes
Correct Marks : 1 Wrong Marks : 0.25

If $327 = 32$ and $926 = 98$, then $764 = ?$

Options :

1. ✔ 158

2. ✖ 172

3. ✖ 144

4. ✖ 188

Question Number : 29 Question Id : 54592747499 Question Type : MCQ Option Shuffling : Yes
Correct Marks : 1 Wrong Marks : 0.25

यदि $327 = 32$ तथा $926 = 98$ हो, तो $764 = ?$

Options :

1. ✔ 158

2. ✖ 172

3. ✖ 144

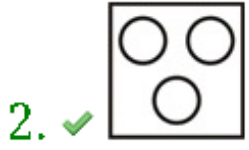
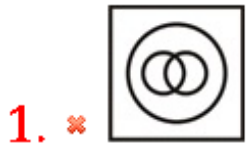
4. ✖ 188

Question Number : 30 Question Id : 54592747500 Question Type : MCQ Option Shuffling : Yes
Correct Marks : 1 Wrong Marks : 0.25

Identify the diagram that best represents the relationship among the given classes.

Dustbin, Pen, Cartoon

Options :



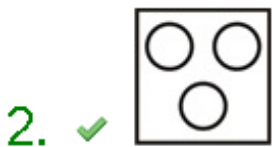
Question Number : 30 Question Id : 54592747500 Question Type : MCQ Option Shuffling : Yes

Correct Marks : 1 Wrong Marks : 0.25

वह आरेख चुनिए जो नीचे दिए गए वर्गों के बीच के संबंध का सही निरूपण करता है।

कूडादान, पेन, कार्टून

Options :



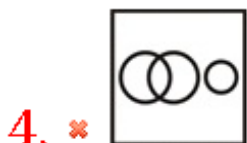
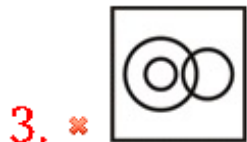


Question Number : 31 Question Id : 54592747501 Question Type : MCQ Option Shuffling : Yes
Correct Marks : 1 Wrong Marks : 0.25

Identify the diagram that best represents the relationship among the given classes.

Fruits, Apple, Red

Options :

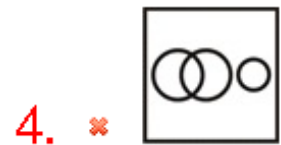


Question Number : 31 Question Id : 54592747501 Question Type : MCQ Option Shuffling : Yes
Correct Marks : 1 Wrong Marks : 0.25

वह आरेख चुनिए जो नीचे दिए गए वर्गों के बीच के संबंध का सही निरूपण करता है।

फल, सेब, लाल

Options :



Question Number : 32 Question Id : 54592747502 Question Type : MCQ Option Shuffling : Yes

Correct Marks : 1 Wrong Marks : 0.25

J is to the south of K. K is to the west of Z. J is to the East of Y. Y is to the North of R. In which direction is R from K?

Options :

1. ✘ South

2. ✘ East

3. ✔ South West

4. ✘ South East

Question Number : 32 Question Id : 54592747502 Question Type : MCQ Option Shuffling : Yes
Correct Marks : 1 Wrong Marks : 0.25

J, K के दक्षिण में है। K, Z के पश्चिम में है। J, Y के पूर्व में है। Y, R के उत्तर में है। R, K से किस दिशा में है?

Options :

1. * दक्षिण
2. * पूर्व
3. ✓ दक्षिण पश्चिम
4. * दक्षिण पूर्व

Question Number : 33 Question Id : 54592747503 Question Type : MCQ Option Shuffling : Yes
Correct Marks : 1 Wrong Marks : 0.25

Vinay starts walking from his stop. He walks 10 km towards West. He turns left and walks 12 km to reach hospital K. He again turns left and walks 16 km. In which direction is he now from the starting point?

Options :

1. * South West
2. ✓ South East
3. * North West
4. * North East

Question Number : 33 Question Id : 54592747503 Question Type : MCQ Option Shuffling : Yes
Correct Marks : 1 Wrong Marks : 0.25

विनय अपनी दुकान से चलना आरंभ करता है। वह पश्चिम की ओर 10 कि.मी. चलता है। वह बाएं मुड़ता है तथा 12 कि.मी. चलकर अस्पताल K पहुँच जाता है। वह पुनः बायीं ओर मुड़ता है तथा 16 कि.मी. चलता है। वह आरंभिक बिंदु से अब किस दिशा में है?

Options :

1. * दक्षिण पश्चिम

2. ✓ दक्षिण पूर्व

3. ✘ उत्तर पश्चिम

4. ✘ उत्तर पूर्व

Question Number : 34 Question Id : 54592747504 Question Type : MCQ Option Shuffling : Yes
Correct Marks : 1 Wrong Marks : 0.25

In the following question, select the figure which can be placed at the sign of question mark (?) from the given alternatives.



Options :



Question Number : 34 Question Id : 54592747504 Question Type : MCQ Option Shuffling : Yes
Correct Marks : 1 Wrong Marks : 0.25

निम्नलिखित प्रश्न में दिए गए विकल्पों में से प्रश्न चिन्ह (?) के स्थान पर आने वाली आकृति को चुनिए।



Options :



Question Number : 35 Question Id : 54592747505 Question Type : MCQ Option Shuffling : Yes
 Correct Marks : 1 Wrong Marks : 0.25

In the following question, select the wrong figure from the given series.



Options :



Question Number : 35 Question Id : 54592747505 Question Type : MCQ Option Shuffling : Yes

Correct Marks : 1 Wrong Marks : 0.25

निम्नलिखित प्रश्न में, दी गयी श्रृंखला में से गलत आकृति को चुनिए।



Options :



3. ✘



4. ✘



Question Number : 36 Question Id : 54592747506 Question Type : MCQ Option Shuffling : Yes
Correct Marks : 1 Wrong Marks : 0.25

In the following question, select the odd figure from the given alternatives.

Options :

1. ✘



2. ✘



3. ✘



4. ✔



Question Number : 36 Question Id : 54592747506 Question Type : MCQ Option Shuffling : Yes
Correct Marks : 1 Wrong Marks : 0.25

निम्नलिखित प्रश्न में, दिए गए विकल्पों में से विषम आकृति को चुनिए।

Options :



Question Number : 37 Question Id : 54592747507 Question Type : MCQ Option Shuffling : Yes
Correct Marks : 1 Wrong Marks : 0.25

Three positions of a dice are given below.



What symbols can come on faces marked (I) and (II)?



Options :

1. ✘ * & and %

2. ✔ # and %

3. ✘ @ and #

4. * @ and \$

Question Number : 37 Question Id : 54592747507 Question Type : MCQ Option Shuffling : Yes
Correct Marks : 1 Wrong Marks : 0.25

नीचे एक पासे की तीन अवस्थाएँ दी गयी हैं।



(I) तथा (II) अंकीत फलक पर क्या चिह्न आ सकते हैं?



Options :

1. * & तथा %
2. ✓ # तथा %
3. * @ तथा #
4. * @ तथा \$

Question Number : 38 Question Id : 54592747508 Question Type : MCQ Option Shuffling : Yes
Correct Marks : 1 Wrong Marks : 0.25

A cube with edges of 15 cm is cut into small cubes with edges of 3 cm. What is the number of small cubes obtained?

Options :

1. * 120
2. ✓ 125
3. * 216
4. * 64

Question Number : 38 Question Id : 54592747508 Question Type : MCQ Option Shuffling : Yes

Correct Marks : 1 Wrong Marks : 0.25

एक 15 से.मी. भुजा वाले घन को 3 से.मी. भुजा वाले छोटे घनों में काटा गया है। मिलने वाले छोटे घनों की संख्या क्या है?

Options :

1. ✖ 120

2. ✔ 125

3. ✖ 216

4. ✖ 64

Question Number : 39 Question Id : 54592747509 Question Type : MCQ Option Shuffling : Yes

Correct Marks : 1 Wrong Marks : 0.25

A cube has 20 cm edge. It is cut into small cubes with edges of 4 cm. How many total cuts are required and how many small cubes are obtained?

Options :

1. ✖ 12, 216

2. ✖ 15, 125

3. ✔ 12, 125

4. ✖ 15, 216

Question Number : 39 Question Id : 54592747509 Question Type : MCQ Option Shuffling : Yes

Correct Marks : 1 Wrong Marks : 0.25

एक घन की भुजा 20 से.मी. है। इसे 4 से.मी. भुजा वाले छोटे घनों में काटा गया है। कुल कितने कट आवश्यक है तथा कितने छोटे घन मिलेंगे?

Options :

1. ✖ 12, 216


2. ✖ 15, 125

3. ✔ 12, 125

4. ✖ 15, 216

Question Number : 40 Question Id : 54592747510 Question Type : MCQ Option Shuffling : Yes
Correct Marks : 1 Wrong Marks : 0.25

If a mirror is placed on the line AB, then which of the answer figures is the right image of the given figure?



Options :



Question Number : 40 Question Id : 54592747510 Question Type : MCQ Option Shuffling : Yes
Correct Marks : 1 Wrong Marks : 0.25

यदि एक दर्पण को AB रेखा पर रखा जाए, तो दी गई उत्तर आकृतियों में से कौन सी आकृति प्रश्न आकृति का सही प्रतिबिंब होगी?



Options :

1. ✓



2. ✗



3. ✗



4. ✗



General Awareness1

Group Number :	3
Group Id :	5459272353
Group Maximum Duration :	0
Group Minimum Duration :	0
Show Attended Group? :	No
Edit Attended Group? :	No
Break time:	0
Group Marks:	20
Is this Group for Examiner? :	No
Revisit allowed for group Instructions? :	Yes
Maximum Instruction Time:	0

General Awareness1

Section Id :	5459272353
Section Number :	1
Section type :	Online
Mandatory or Optional:	Mandatory
Number of Questions:	20
Number of Questions to be attempted:	20
Section Marks:	20

Sub-Section Number:	1
Sub-Section Id:	5459272823
Question Shuffling Allowed :	Yes

Question Number : 41 Question Id : 54592747511 Question Type : MCQ Option Shuffling : Yes
Correct Marks : 1 Wrong Marks : 0.25

Which of the following festivals belongs to the Parsi community?

Options :

1. ✓ Navroz
2. ✗ Pongal
3. ✗ Onam
4. ✗ Christmas

Question Number : 41 Question Id : 54592747511 Question Type : MCQ Option Shuffling : Yes
Correct Marks : 1 Wrong Marks : 0.25

पारसी समुदाय द्वारा निम्नलिखित में से कौनसा त्यौहार पारसी समाज के त्यौहार के रूप में जाना जाता है?

Options :

1. ✓ नवरोज़
2. ✗ पोंगल
3. ✗ ओणम
4. ✗ क्रिसमस

Question Number : 42 Question Id : 54592747512 Question Type : MCQ Option Shuffling : Yes
Correct Marks : 1 Wrong Marks : 0.25

_____ dance form is associated with Kerala.

Options :

1. ✖ Saila
2. ✖ Jawara
3. ✔ Kathakali
4. ✖ Dharmyal

Question Number : 42 Question Id : 54592747512 Question Type : MCQ Option Shuffling : Yes
Correct Marks : 1 Wrong Marks : 0.25

_____ नृत्य शैली केरल से संबंधित है।

Options :

1. ✖ सैला
2. ✖ जवारा
3. ✔ कथकली
4. ✖ धमयाल

Question Number : 43 Question Id : 54592747513 Question Type : MCQ Option Shuffling : Yes
Correct Marks : 1 Wrong Marks : 0.25

_____ dance is also known as 'Vatrakali'.

Options :

1. ✖ Kathakali
2. ✖ Mudi yettu
3. ✔ Sangha Kali
4. ✖ Dappu Kali

Question Number : 43 Question Id : 54592747513 Question Type : MCQ Option Shuffling : Yes
Correct Marks : 1 Wrong Marks : 0.25

_____ नृत्य को 'वत्रकली' के नाम से भी जाना जाता है।

Options :

1. ✖ कथकली
2. ✖ मुड़ियेडु
3. ✔ संघा कली
4. ✖ दप्पू कली

Question Number : 44 Question Id : 54592747514 Question Type : MCQ Option Shuffling : Yes
Correct Marks : 1 Wrong Marks : 0.25

Which of the following is NOT a harvest festival?

- I. Pongal
- II. Bihu
- III. Onam
- IV. Durga Puja

Options :

1. ✖ Only I
2. ✖ Only II
3. ✔ Only IV
4. ✖ Both II and III

Question Number : 44 Question Id : 54592747514 Question Type : MCQ Option Shuffling : Yes
Correct Marks : 1 Wrong Marks : 0.25

निम्नलिखित में से कौन सा त्योहार फसल कटाई का त्योहार नहीं है?

- I. पोंगल
- II. बिहू
- III. ओणम
- IV. दुर्गा पूजा

Options :

1. ✖ केवल I

2. ✖ केवल II

3. ✔ केवल IV

4. ✖ II तथा III दोनों

Question Number : 45 Question Id : 54592747515 Question Type : MCQ Option Shuffling : Yes
Correct Marks : 1 Wrong Marks : 0.25

The fixed interest rate at which RBI provides overnight liquidity to banks against collateral of government securities is known as _____ .

Options :

1. ✖ Reverse Repo Rate

2. ✔ Repo Rate

3. ✖ Bank Rate

4. ✖ Statutory Liquidity Ratio

Question Number : 45 Question Id : 54592747515 Question Type : MCQ Option Shuffling : Yes
Correct Marks : 1 Wrong Marks : 0.25

भारतीय रिज़र्व बैंक द्वारा सरकारी प्रतिभूतियों के संपार्श्विक के लिए बैंकों को एक दिवसीय चलनिधि प्रदान करने वाली निर्धारित ब्याज दर को _____ के नाम से जाना जाता है।

Options :

1. ✖ रिवर्स रेपो दर

2. ✔ रेपो दर

3. ✖ बैंक दर

4. ✖ सांविधिक चलनिधि अनुपात

Question Number : 46 Question Id : 54592747516 Question Type : MCQ Option Shuffling : Yes
Correct Marks : 1 Wrong Marks : 0.25

Who is the chairman of Cabinet Committee on Economic Affairs?

Options :

1. * President
2. * Home Minister
3. * Finance Minister
4. ✓ Prime Minister

Question Number : 46 Question Id : 54592747516 Question Type : MCQ Option Shuffling : Yes
Correct Marks : 1 Wrong Marks : 0.25

आर्थिक कार्य संबंधी मंत्रिमंडल समिति (कैबिनेट कमिटी ऑन इकनोमिक अफेयर्स) का अध्यक्ष कौन होता है?

Options :

1. * राष्ट्रपति
2. * गृह मंत्री
3. * वित्त मंत्री
4. ✓ प्रधानमंत्री

Question Number : 47 Question Id : 54592747517 Question Type : MCQ Option Shuffling : Yes
Correct Marks : 1 Wrong Marks : 0.25

Which of the following factors is not taken into consideration while calculation of Minimum Support Price by Commission for Agricultural Costs and Prices?

Options :

1. * Inter-Crop Price Parity
2. * Demand and Supply
3. * Cost of Production
4. ✓ Foreign Exchange Rate

Question Number : 47 Question Id : 54592747517 Question Type : MCQ Option Shuffling : Yes
Correct Marks : 1 Wrong Marks : 0.25

कृषि लागत और कीमत आयोग द्वारा न्यूनतम समर्थन मूल्य की गणना करते समय निम्नलिखित में से किस कारक पर ध्यान नहीं दिया जाता है?

Options :

1. * अंतर-फसल मूल्य समता
2. * माँग और आपूर्ति
3. * उत्पादन लागत
4. ✓ विदेशी मुद्रा दर

Question Number : 48 Question Id : 54592747518 Question Type : MCQ Option Shuffling : Yes

Correct Marks : 1 Wrong Marks : 0.25

To know the nature of a solution, a particular substance is used which is known as _____.

Options :

1. * Acid solution
2. * Basic – solution
3. * Salt
4. ✓ Indicator

Question Number : 48 Question Id : 54592747518 Question Type : MCQ Option Shuffling : Yes

Correct Marks : 1 Wrong Marks : 0.25

किसी विलयन की प्रकृति को जानने के लिए, विशेष पदार्थ का उपयोग किया जाता है जिसे _____ के रूप में जाना जाता है।

Options :

1. * अम्लीय विलयन
2. * क्षारीय विलयन
3. * लवण
4. ✓ सूचक

Question Number : 49 Question Id : 54592747519 Question Type : MCQ Option Shuffling : Yes
Correct Marks : 1 Wrong Marks : 0.25

Sublimation is a process in which _____ .

Options :

1. ✖ solid initially converts into liquid and then into vapour
2. ✔ solid directly converts into gas
3. ✖ gas directly converts into liquid
4. ✖ solid converts into liquid

Question Number : 49 Question Id : 54592747519 Question Type : MCQ Option Shuffling : Yes
Correct Marks : 1 Wrong Marks : 0.25

ऊर्ध्वपातन एक प्रक्रिया है जिसमें _____ ।

Options :

1. ✖ ठोस पहले द्रव में और फिर वाष्प में परिवर्तित होता है
2. ✔ ठोस सीधे गैस में परिवर्तित होता है
3. ✖ गैस सीधे द्रव में परिवर्तित होती है
4. ✖ ठोस, द्रव में परिवर्तित होता है

Question Number : 50 Question Id : 54592747520 Question Type : MCQ Option Shuffling : Yes
Correct Marks : 1 Wrong Marks : 0.25

What is the power of a concave lens with focal length 5 metre?

Options :

1. ✖ +0.5D
2. ✖ -0.5D
3. ✖ +0.2D
4. ✔ -0.2D

Question Number : 50 Question Id : 54592747520 Question Type : MCQ Option Shuffling : Yes
Correct Marks : 1 Wrong Marks : 0.25

5 मीटर फोकस दूरी वाले किसी अवतल लेंस की क्षमता क्या होगी?

Options :

1. ✖ +0.5D

2. ✖ -0.5D

3. ✖ +0.2D

4. ✔ -0.2D

Question Number : 51 Question Id : 54592747521 Question Type : MCQ Option Shuffling : Yes
Correct Marks : 1 Wrong Marks : 0.25

Which of the following is the most ductile metal?

Options :

1. ✖ Mercury

2. ✖ Platinum

3. ✖ Lead

4. ✔ Gold

Question Number : 51 Question Id : 54592747521 Question Type : MCQ Option Shuffling : Yes
Correct Marks : 1 Wrong Marks : 0.25

निम्नलिखित में से कौन सी धातु सबसे अधिक आघातवर्ध्य धातु है?

Options :

1. ✖ पारा

2. ✖ प्लैटिनम

3. ✖ सीसा

4. ✔ सोना

Question Number : 52 Question Id : 54592747522 Question Type : MCQ Option Shuffling : Yes
Correct Marks : 1 Wrong Marks : 0.25

An air conditioner connected to 220V power supply and current in the circuit is 2A. What is the power consumed?

Options :

1. ✖ 220W

2. ✖ 880W

3. ✖ 110W

4. ✓ 440W

Question Number : 52 Question Id : 54592747522 Question Type : MCQ Option Shuffling : Yes
Correct Marks : 1 Wrong Marks : 0.25

एक एयर कंडीशनर 220V शक्ति आपूर्ति से संयोजित और परिपथ में 2A की विद्युत् धारा से जुड़ा है। कितनी शक्ति उपभुक्त होती है?

Options :

1. ✗ 220W
2. ✗ 880W
3. ✗ 110W
4. ✓ 440W

Question Number : 53 Question Id : 54592747523 Question Type : MCQ Option Shuffling : Yes
Correct Marks : 1 Wrong Marks : 0.25

Which of the following chemical compound is used for bleaching cotton and linen in textile industry?

Options :

1. ✗ Sodium hydroxide
2. ✗ Calcium chloride
3. ✓ Calcium hypochlorite
4. ✗ Sodium carbonate

Question Number : 53 Question Id : 54592747523 Question Type : MCQ Option Shuffling : Yes
Correct Marks : 1 Wrong Marks : 0.25

वस्त्र उद्योग में सूती और लिनन वस्त्रों के विरंजन के लिए निम्नलिखित में से किस रासायनिक यौगिक का उपयोग किया जाता है?

Options :

1. ✗ सोडियम हाइड्रॉक्साइड
2. ✗ कैल्शियम क्लोराइड
3. ✓ कैल्शियम हाइपोक्लोराइड

4. * सोडियम कार्बोनेट

Question Number : 54 Question Id : 54592747524 Question Type : MCQ Option Shuffling : Yes
Correct Marks : 1 Wrong Marks : 0.25

What is the least distance of distinct vision in case of human with normal vision?

Options :

1. * 10 cm
2. ✓ 25 cm
3. * 50 cm
4. * 45 cm

Question Number : 54 Question Id : 54592747524 Question Type : MCQ Option Shuffling : Yes
Correct Marks : 1 Wrong Marks : 0.25

किसी सामान्य दृष्टि वाले मानव के मामले में सुस्पष्ट दर्शन की अल्पतम दूरी क्या होती है?

Options :

1. * 10 से.मी.
2. ✓ 25 से.मी.
3. * 50 से.मी.
4. * 45 से.मी.

Question Number : 55 Question Id : 54592747525 Question Type : MCQ Option Shuffling : Yes
Correct Marks : 1 Wrong Marks : 0.25

Which acid is used in the process of anodising of aluminium utensils to prevent them from corrosion?

Options :

1. * Dilute Hydrochloric acid
2. * Concentrated Nitric acid
3. * Concentrated Sulphuric acid
4. ✓ Dilute Sulphuric acid

Question Number : 55 Question Id : 54592747525 Question Type : MCQ Option Shuffling : Yes

Correct Marks : 1 Wrong Marks : 0.25

ऐलुमिनियम के बर्तनों को जंग से बचाने के लिए ऐनोडीकरण की प्रक्रिया में किस अम्ल का उपयोग किया जाता है?

Options :

1. * तनु हाइड्रोक्लोरिक अम्ल
2. * सांद्र नाइट्रिक अम्ल
3. * सांद्र सल्फ्यूरिक अम्ल
4. ✓ तनु सल्फ्यूरिक अम्ल

Question Number : 56 Question Id : 54592747526 Question Type : MCQ Option Shuffling : Yes

Correct Marks : 1 Wrong Marks : 0.25

Rabi crops are associated with which season?

Options :

1. ✓ Winter Season
2. * Rainy Season
3. * Summer Season
4. * Autumn Season

Question Number : 56 Question Id : 54592747526 Question Type : MCQ Option Shuffling : Yes

Correct Marks : 1 Wrong Marks : 0.25

रबी की फसलें किस ऋतु से संबंधित हैं?

Options :

1. ✓ शीत ऋतु
2. * वर्षा ऋतु
3. * ग्रीष्म ऋतु
4. * शरद ऋतु

Question Number : 57 Question Id : 54592747527 Question Type : MCQ Option Shuffling : Yes

Correct Marks : 1 Wrong Marks : 0.25

Which Indian river is known as 'Jamuna' in Bangladesh?

Options :

1. * Yamuna
2. ✓ Brahmaputra
3. * Ganga
4. * Mahanadi

Question Number : 57 Question Id : 54592747527 Question Type : MCQ Option Shuffling : Yes

Correct Marks : 1 Wrong Marks : 0.25

किस भारतीय नदी को बांग्लादेश में 'जमुना' के नाम से जाना जाता है?

Options :

1. * यमुना
2. ✓ ब्रह्मपुत्र
3. * गंगा
4. * महानदी

Question Number : 58 Question Id : 54592747528 Question Type : MCQ Option Shuffling : Yes

Correct Marks : 1 Wrong Marks : 0.25

'Bays' and 'Gulfs' are associated with which of the following?

Options :

1. * Marshes
2. * Rivers
3. ✓ Oceans
4. * Ponds

Question Number : 58 Question Id : 54592747528 Question Type : MCQ Option Shuffling : Yes

Correct Marks : 1 Wrong Marks : 0.25

खाड़ी (बे) और 'गल्फ' निम्नलिखित में से किस से संबंधित हैं?

Options :

1. * दलदल

2. ✖ नदी

3. ✔ महासागर

4. ✖ तालाब

Question Number : 59 Question Id : 54592747529 Question Type : MCQ Option Shuffling : Yes
Correct Marks : 1 Wrong Marks : 0.25

Which crop requires high temperature, light rainfall, two hundred and ten frost-free days and bright sunshine for its growth?

Options :

1. ✖ Wheat

2. ✖ Paddy

3. ✔ Cotton

4. ✖ Tea

Question Number : 59 Question Id : 54592747529 Question Type : MCQ Option Shuffling : Yes
Correct Marks : 1 Wrong Marks : 0.25

किस फसल को अपने विकास के लिए उच्च तापमान, हल्की वर्षा, दो सौ दस ठंड से मुक्त दिन (फ्रॉस्ट फ्री) और तेज धूप की आवश्यकता होती है?

Options :

1. ✖ गेहूं

2. ✖ धान

3. ✔ कपास

4. ✖ चाय

Question Number : 60 Question Id : 54592747530 Question Type : MCQ Option Shuffling : Yes
Correct Marks : 1 Wrong Marks : 0.25

Which of the following can cause soil erosion?

- I - Deforestation
- II - Over Grazing
- III - Wind

Options :

- 1. ✓ I , II and III
- 2. * Only I
- 3. * Both II and III
- 4. * Both I and II

Question Number : 60 Question Id : 54592747530 Question Type : MCQ Option Shuffling : Yes
Correct Marks : 1 Wrong Marks : 0.25

निम्नलिखित में से क्या मृदा अपरदन का कारण हो सकता है?

- I - वनोन्मूलन
- II - अति चराई
- III - पवन

Options :

- 1. ✓ I, II और III
- 2. * केवल I
- 3. * दोनों II और III
- 4. * दोनों I और II

General Awareness2

Group Number :	4
Group Id :	5459272354
Group Maximum Duration :	0
Group Minimum Duration :	0
Show Attended Group? :	No

Edit Attended Group? :	No
Break time:	0
Group Marks:	20
Is this Group for Examiner?:	No
Revisit allowed for group Instructions? :	Yes
Maximum Instruction Time:	0
Minimum Instruction Time:	0

General Awareness2

Section Id :	5459272354
Section Number :	1
Section type :	Online
Mandatory or Optional:	Mandatory
Number of Questions:	20
Number of Questions to be attempted:	20
Section Marks:	20

Sub-Section Number:	1
Sub-Section Id:	5459272824
Question Shuffling Allowed :	Yes

Question Number : 61 Question Id : 54592747531 Question Type : MCQ Option Shuffling : Yes
Correct Marks : 1 Wrong Marks : 0.25

Which of the following factor(s) affect/s rural settlement in India?

- I - Climate
- II - Ethnicity
- III - Community

Options :

1. ✘ II and III
2. ✘ I only
3. ✔ I , II and III
4. ✘ III only

Question Number : 61 Question Id : 54592747531 Question Type : MCQ Option Shuffling : Yes
Correct Marks : 1 Wrong Marks : 0.25

निम्नलिखित कारकों में से कौन सा कारक भारत में ग्रामीण औपनिवेशीकरण (सेटलमेंट) को प्रभावित करता है?

- I - जलवायु
- II - जाति
- III - समुदाय

Options :

- 1. * II और III
- 2. * केवल I
- 3. ✓ I, II, और III
- 4. * केवल III

Question Number : 62 Question Id : 54592747532 Question Type : MCQ Option Shuffling : Yes
Correct Marks : 1 Wrong Marks : 0.25

Swadeshi Movement started after which of the following events?

Options :

- 1. ✓ Partition of Bengal
- 2. * Revolt of 1857
- 3. * INA Mutiny
- 4. * Jallianwala Bagh Massacre

Question Number : 62 Question Id : 54592747532 Question Type : MCQ Option Shuffling : Yes
Correct Marks : 1 Wrong Marks : 0.25

स्वदेशी आंदोलन निम्नलिखित में से किस घटना के बाद शुरू हुआ था?

Options :

- 1. ✓ बंगाल का विभाजन
- 2. * 1857 का विद्रोह

3. * आई.एन.ए म्यूटिनी (गदर)

4. * जलियांवाला बाग नरसंहार

Question Number : 63 Question Id : 54592747533 Question Type : MCQ Option Shuffling : Yes

Correct Marks : 1 Wrong Marks : 0.25

Mahatma Gandhi was NOT associated with which of the following?

Options :

1. * Kheda Satyagraha

2. * Non-Cooperation Movement

3. * Quit India Movement

4. ✓ Santhal Rebellion

Question Number : 63 Question Id : 54592747533 Question Type : MCQ Option Shuffling : Yes

Correct Marks : 1 Wrong Marks : 0.25

महात्मा गांधी निम्नलिखित में से किस से संबंधित नहीं थे?

Options :

1. * खेड़ा सत्याग्रह

2. * असहयोग आंदोलन

3. * भारत छोड़ो आंदोलन

4. ✓ संथल विद्रोह

Question Number : 64 Question Id : 54592747534 Question Type : MCQ Option Shuffling : Yes

Correct Marks : 1 Wrong Marks : 0.25

Which Indian philosopher is famously known for his address in 1893 at the Chicago Conference of World Religions?

Options :

1. * Ishwar Chandra Vidyasagar

2. * Raja Rammohan Roy

3. * Ramakrishna Paramhansa

4. ✓ Swami Vivekananda

Question Number : 64 Question Id : 54592747534 Question Type : MCQ Option Shuffling : Yes
Correct Marks : 1 Wrong Marks : 0.25

किस तत्त्वज्ञानी को 1893 के विश्व धर्मों के शिकागो सम्मेलन में उनके संबोधन के लिए जाना जाता है?

Options :

1. * ईश्वरचंद्र विद्यासागर
2. * राजा राममोहन राय
3. * रामकृष्ण परमहंस
4. ✓ स्वामी विवेकानंद

Question Number : 65 Question Id : 54592747535 Question Type : MCQ Option Shuffling : Yes
Correct Marks : 1 Wrong Marks : 0.25

Which of the following Acts allowed Christian missionaries to travel to India and spread western religious ideas?

Options :

1. * Regulating Act of 1773
2. * Indian Councils Act 1909
3. ✓ Charter Act of 1813
4. * Government of India Act 1935

Question Number : 65 Question Id : 54592747535 Question Type : MCQ Option Shuffling : Yes
Correct Marks : 1 Wrong Marks : 0.25

निम्नलिखित में से किस अधिनियम ने मिशनरियों को भारत आने तथा पश्चिमी धार्मिक विचारों को फैलाने की अनुमति दी?

Options :

1. * 1773 का विनियमन अधिनियम
2. * भारतीय परिषद् अधिनियम 1909
3. ✓ 1813 का चार्टर अधिनियम
4. * भारत सरकार अधिनियम 1935

Question Number : 66 Question Id : 54592747536 Question Type : MCQ Option Shuffling : Yes

Correct Marks : 1 Wrong Marks : 0.25

‘Ashvamedha’ and ‘Rajasuya’ in Vedic religion are types of

_____ .

Options :

1. ✓ Sacrifices
2. ✗ Hymns
3. ✗ Musical instruments
4. ✗ Royal orders

Question Number : 66 Question Id : 54592747536 Question Type : MCQ Option Shuffling : Yes

Correct Marks : 1 Wrong Marks : 0.25

वैदिक धर्म में 'अश्वमेध' और 'राजसूय' _____ के प्रकार हैं।

Options :

1. ✓ बलिदानों
2. ✗ भजन
3. ✗ संगीत वाद्ययंत्रों
4. ✗ शाही आदेशों

Question Number : 67 Question Id : 54592747537 Question Type : MCQ Option Shuffling : Yes

Correct Marks : 1 Wrong Marks : 0.25

The system of assignment of revenue of a particular territory to the nobles for their services to the state during Muslim period was known as _____ system.

Options :

1. ✗ Faujdari
2. ✗ Jizya
3. ✓ Jagirdari
4. ✗ Amir

Question Number : 67 Question Id : 54592747537 Question Type : MCQ Option Shuffling : Yes

Correct Marks : 1 Wrong Marks : 0.25

मुस्लिम काल के दौरान राज्य को उनकी सेवाओं के लिए रईसों को एक विशेष क्षेत्र के राजस्व सौंपने की प्रणाली को _____ प्रणाली के नाम से जाना जाता था।

Options :

1. * फौजदारी
2. * जिज्या
3. ✓ जागीरदारी
4. * अमीर

Question Number : 68 Question Id : 54592747538 Question Type : MCQ Option Shuffling : Yes

Correct Marks : 1 Wrong Marks : 0.25

Who has been appointed as the ambassador of 'Swasth Immunised India' campaign in February 2019?

Options :

1. * Dia Mirza
2. ✓ Kareena Kapoor Khan
3. * Kajol
4. * Deepika Padukone

Question Number : 68 Question Id : 54592747538 Question Type : MCQ Option Shuffling : Yes

Correct Marks : 1 Wrong Marks : 0.25

फरवरी 2019 में किसे 'स्वस्थ-इम्यूनाइज्ड-इंडिया' अभियान के राजदूत के रूप में नियुक्त किया गया है?

Options :

1. * दीया मिर्जा
2. ✓ करीना कपूर खान
3. * काजोल
4. * दीपिका पादुकोण

Question Number : 69 Question Id : 54592747539 Question Type : MCQ Option Shuffling : Yes
Correct Marks : 1 Wrong Marks : 0.25

In June 2019 who has been selected for Danny Kaye humanitarian award by UNICEF?

Options :

1. * Dia Mirza
2. * Lara Dutta
3. * Sushmita Sen
4. ✓ Priyanka Chopra

Question Number : 69 Question Id : 54592747539 Question Type : MCQ Option Shuffling : Yes
Correct Marks : 1 Wrong Marks : 0.25

जून 2019 में यूनिसेफ द्वारा डैनी केई मानवतावादी पुरस्कार के लिए किसे चुना गया?

Options :

1. * दीया मिर्जा
2. * लारा दत्ता
3. * सुष्मिता सेन
4. ✓ प्रियंका चोपड़ा

Question Number : 70 Question Id : 54592747540 Question Type : MCQ Option Shuffling : Yes
Correct Marks : 1 Wrong Marks : 0.25

Equator Prize is given by which of the following organization?

Options :

1. * UNEP
2. ✓ UNDP
3. * UNICEF
4. * WHO

Question Number : 70 Question Id : 54592747540 Question Type : MCQ Option Shuffling : Yes
Correct Marks : 1 Wrong Marks : 0.25

इक्वेटर पुरस्कार निम्नलिखित में से किस संगठन द्वारा दिया जाता है?

Options :

1. ✖ यु.एन.ई.पी
2. ✔ यु.एन.डी.पी
3. ✖ युनीसेफ
4. ✖ डब्ल्यू.एच.ओ

Question Number : 71 Question Id : 54592747541 Question Type : MCQ Option Shuffling : Yes
Correct Marks : 1 Wrong Marks : 0.25

Who won Women's Prize for Fiction 2019 for her book "An American Marriage"?

Options :

1. ✔ Tayari Jones
2. ✖ Anna Burns
3. ✖ Pat Barker
4. ✖ Helen Rogers

Question Number : 71 Question Id : 54592747541 Question Type : MCQ Option Shuffling : Yes
Correct Marks : 1 Wrong Marks : 0.25

2019 का वूमन्स प्राइज फॉर फिक्शन पुरस्कार अपनी पुस्तक "एन अमेरिकन मैरिज" के लिए किसने जीता?

Options :

1. ✔ टायरी जोन्स
2. ✖ एना बर्न्स
3. ✖ पैट बार्कर
4. ✖ हेलेन रोजर्स

Question Number : 72 Question Id : 54592747542 Question Type : MCQ Option Shuffling : Yes
Correct Marks : 1 Wrong Marks : 0.25

Who has been awarded Mexico's Highest Civilian Honour – 'Order of the Aztec Eagle' on 1st June 2019?

Options :

1. * Sushma Swaraj
2. * Hamid Ansari
3. * Arun Jaitley
4. ✓ Pratibha Patil

Question Number : 72 Question Id : 54592747542 Question Type : MCQ Option Shuffling : Yes
Correct Marks : 1 Wrong Marks : 0.25

1 जून 2019 को मेक्सिको का सर्वोच्च सम्मान - 'आर्डर ऑफ़ द एज़टेक ईगल' किसे दिया गया है?

Options :

1. * सुषमा स्वराज
2. * हामिद अंसारी
3. * अरुण जेटली
4. ✓ प्रतिभा पाटिल

Question Number : 73 Question Id : 54592747543 Question Type : MCQ Option Shuffling : Yes
Correct Marks : 1 Wrong Marks : 0.25

Who won Nine Dots Prize 2019?

Options :

1. * Tayari Jones
2. ✓ Annie Zaidi
3. * Anna Burns
4. * Pat Barker

Question Number : 73 Question Id : 54592747543 Question Type : MCQ Option Shuffling : Yes
Correct Marks : 1 Wrong Marks : 0.25

2019 का नाइन डॉट्स पुरस्कार किसने जीता?

Options :

1. * टायरी जोन्स
2. ✓ एनी जैदी

3. ✖ एना बर्न्स

4. ✖ पैट बार्कर

Question Number : 74 Question Id : 54592747544 Question Type : MCQ Option Shuffling : Yes

Correct Marks : 1 Wrong Marks : 0.25

How many subjects were transferred from State list to Concurrent list by 42nd Amendment Act of 1976?

Options :

1. ✖ 2

2. ✖ 3

3. ✔ 5

4. ✖ 4

Question Number : 74 Question Id : 54592747544 Question Type : MCQ Option Shuffling : Yes

Correct Marks : 1 Wrong Marks : 0.25

1976 के 42 वें संशोधन अधिनियम द्वारा राज्य सूची से समवर्ती सूची में कितने विषय स्थानांतरित किए गए?

Options :

1. ✖ 2

2. ✖ 3

3. ✔ 5

4. ✖ 4

Question Number : 75 Question Id : 54592747545 Question Type : MCQ Option Shuffling : Yes

Correct Marks : 1 Wrong Marks : 0.25

Which Schedule of the Indian Constitution deals with the allocation of seats in council of states?

Options :

1. ✖ II

2. ✖ III

3. ✓ IV

4. ✗ X

Question Number : 75 Question Id : 54592747545 Question Type : MCQ Option Shuffling : Yes

Correct Marks : 1 Wrong Marks : 0.25

भारत के संविधान की कौन सी अनुसूची में राज्य सभा के स्थानों का आवंटन दिया गया है?

Options :

1. ✗ II

2. ✗ III

3. ✓ IV

4. ✗ X

Question Number : 76 Question Id : 54592747546 Question Type : MCQ Option Shuffling : Yes

Correct Marks : 1 Wrong Marks : 0.25

Who appoints the Attorney General of India?

Options :

1. ✗ Prime Minister

2. ✓ President

3. ✗ Governor

4. ✗ Chief Justice of India

Question Number : 76 Question Id : 54592747546 Question Type : MCQ Option Shuffling : Yes

Correct Marks : 1 Wrong Marks : 0.25

भारत के महान्यायवादी की नियुक्ति कौन करता है?

Options :

1. ✗ प्रधान मंत्री

2. ✓ राष्ट्रपति

3. ✗ राज्यपाल

4. ✗ भारत के मुख्य न्यायाधीश

Question Number : 77 Question Id : 54592747547 Question Type : MCQ Option Shuffling : Yes

Correct Marks : 1 Wrong Marks : 0.25

Articles 5 to 11 of Indian Constitution deals with which of the following?

Options :

1. ✓ Citizenship
2. ✗ Fundamental Duties
3. ✗ Directive Principles of State Policy
4. ✗ Fundamental Rights

Question Number : 77 Question Id : 54592747547 Question Type : MCQ Option Shuffling : Yes

Correct Marks : 1 Wrong Marks : 0.25

भारतीय संविधान के अनुच्छेद 5 से 11 निम्नलिखित में से किससे संबंधित हैं?

Options :

1. ✓ नागरिकता
2. ✗ मौलिक कर्तव्य
3. ✗ राज्य के नीति निर्देशक तत्व
4. ✗ मौलिक अधिकार

Question Number : 78 Question Id : 54592747548 Question Type : MCQ Option Shuffling : Yes

Correct Marks : 1 Wrong Marks : 0.25

Vijender Singh won his first professional fight in US circuit. This win was his _____ consecutive victory.

Options :

1. ✗ 10th
2. ✗ 12th
3. ✓ 11th
4. ✗ 9th

Question Number : 78 Question Id : 54592747548 Question Type : MCQ Option Shuffling : Yes

Correct Marks : 1 Wrong Marks : 0.25

विजेन्द्र सिंह ने यूएस सर्किट में अपनी पहली पेशेवर लड़ाई जीती। यह जीत उनकी लगातार _____ जीत थी।

Options :

1. ✖ 10 वीं
2. ✖ 12 वीं
3. ✔ 11 वीं
4. ✖ 9 वीं

Question Number : 79 Question Id : 54592747549 Question Type : MCQ Option Shuffling : Yes

Correct Marks : 1 Wrong Marks : 0.25

Name of the first interactive game show launched by Facebook is _____ .

Options :

1. ✖ "Gamer's Zone"
2. ✖ "Let's Play"
3. ✖ "Bonanza"
4. ✔ "Confetti"

Question Number : 79 Question Id : 54592747549 Question Type : MCQ Option Shuffling : Yes

Correct Marks : 1 Wrong Marks : 0.25

फेसबुक द्वारा शुरू किए गए पहले इंटरैक्टिव गेम शो का नाम _____ है।

Options :

1. ✖ "गेमर्स ज़ोन"
2. ✖ "लेट्स प्ले"
3. ✖ "बोनांजा"
4. ✔ "कॉन्फेटी"

Question Number : 80 Question Id : 54592747550 Question Type : MCQ Option Shuffling : Yes

Correct Marks : 1 Wrong Marks : 0.25

Which Indian boxer became the first gold medalist in Kazakhstan President's Cup 2019?

Options :

1. ✖ Duryodhan Singh Negi
2. ✖ Zakir Safiullin
3. ✔ Shiva Thapa
4. ✖ Vikas Krishan Yadav

Question Number : 80 Question Id : 54592747550 Question Type : MCQ Option Shuffling : Yes

Correct Marks : 1 Wrong Marks : 0.25

कज़ाकस्तान प्रेजीडेंट कप 2019 में कौन सा भारतीय मुक्केबाज पहला स्वर्ण पदक विजेता बना?

Options :

1. ✖ दुर्योधन सिंह नेगी
2. ✖ ज़ाकिर सफ़िउलिन
3. ✔ शिवा थापा
4. ✖ विकास कृष्ण यादव

Arithmetic Ability1

Group Number :	5
Group Id :	5459272355
Group Maximum Duration :	0
Group Minimum Duration :	0
Show Attended Group? :	No
Edit Attended Group? :	No
Break time:	0
Group Marks:	20
Is this Group for Examiner?:	No
Revisit allowed for group Instructions? :	Yes
Maximum Instruction Time:	0
Minimum Instruction Time:	0

Arithmetic Ability1

Section Id :	5459272355
Section Number :	1
Section type :	Online
Mandatory or Optional:	Mandatory
Number of Questions:	20
Number of Questions to be attempted:	20
Section Marks:	20

Sub-Section Number:	1
Sub-Section Id:	5459272825
Question Shuffling Allowed :	Yes

Question Number : 81 Question Id : 54592747551 Question Type : MCQ Option Shuffling : Yes
Correct Marks : 1 Wrong Marks : 0.25

What is the value of $\frac{16 - [2 + 8 - (8 \div 16 \times 8)]}{20 + 10 \times 2}$?

Options :

1. ✖ 0.5
2. ✖ 0.30
3. ✔ 0.25
4. ✖ 0.75

Question Number : 81 Question Id : 54592747551 Question Type : MCQ Option Shuffling : Yes
Correct Marks : 1 Wrong Marks : 0.25

$\frac{16 - [2 + 8 - (8 \div 16 \times 8)]}{20 + 10 \times 2}$ का मान क्या है?

Options :

1. ✖ 0.5
2. ✖ 0.30
3. ✔ 0.25
4. ✖ 0.75

Question Number : 82 Question Id : 54592747552 Question Type : MCQ Option Shuffling : Yes
Correct Marks : 1 Wrong Marks : 0.25

Least Common Multiple of two numbers is 18 and Highest Common Factor is 2. If one of the number is 4, then what is the other number?

Options :

1. ✖ 4

2. ✖ 8

3. ✔ 9

4. ✖ 6

Question Number : 82 Question Id : 54592747552 Question Type : MCQ Option Shuffling : Yes

Correct Marks : 1 Wrong Marks : 0.25

दो संख्याओं का लघुत्तम समापवर्त्य 18 है तथा महत्तम समापवर्तक 2 है। यदि एक संख्या 4 है, तो दूसरी संख्या क्या है?

Options :

1. ✖ 4

2. ✖ 8

3. ✔ 9

4. ✖ 6

Question Number : 83 Question Id : 54592747553 Question Type : MCQ Option Shuffling : Yes

Correct Marks : 1 Wrong Marks : 0.25

What is the value of $\frac{\left(\frac{3}{4} + \frac{1}{6}\right)^2 - \left(\frac{3}{4} - \frac{1}{6}\right)^2}{\frac{1}{8}}$?

Options :

1. ✖ 8

2. ✖ 2

3. ✔ 4

4. ✖ 6

Question Number : 83 Question Id : 54592747553 Question Type : MCQ Option Shuffling : Yes

Correct Marks : 1 Wrong Marks : 0.25

$$\frac{\left(\frac{3}{4} + \frac{1}{6}\right)^2 - \left(\frac{3}{4} - \frac{1}{6}\right)^2}{\frac{1}{8}} \text{ का मान क्या है?}$$

Options :

1. ✖ 8

2. ✖ 2

3. ✔ 4

4. ✖ 6

Question Number : 84 Question Id : 54592747554 Question Type : MCQ Option Shuffling : Yes

Correct Marks : 1 Wrong Marks : 0.25

$$\text{What is the value of } \left(\frac{3}{15} + \frac{5}{3} + \frac{3}{5}\right)^2 - \left(\frac{1}{3} + 1 + \frac{9}{75}\right)?$$

Options :

1. ✖ 1038/225

2. ✔ 1042/225

3. ✖ 1038/223

4. ✖ 1042/223

Question Number : 84 Question Id : 54592747554 Question Type : MCQ Option Shuffling : Yes

Correct Marks : 1 Wrong Marks : 0.25

$$\left(\frac{3}{15} + \frac{5}{3} + \frac{3}{5}\right)^2 - \left(\frac{1}{3} + 1 + \frac{9}{75}\right) \text{ का मान क्या है?}$$

Options :

1. ✖ 1038/225

2. ✔ 1042/225

3. ✖ 1038/223

4. ✖ 1042/223

Question Number : 85 Question Id : 54592747555 Question Type : MCQ Option Shuffling : Yes
Correct Marks : 1 Wrong Marks : 0.25

The ratio of three numbers is 3 : 4 : 6 and their Highest Common Factor is 115. What is the sum of these numbers?

Options :

1. ✖ 1035

2. ✖ 1265

3. ✔ 1495

4. ✖ 1725

Question Number : 85 Question Id : 54592747555 Question Type : MCQ Option Shuffling : Yes
Correct Marks : 1 Wrong Marks : 0.25

तीन संख्याओं का अनुपात 3 : 4 : 6 है तथा उनका महत्तम समापवर्तक 115 है। इन संख्याओं का योग क्या है?

Options :

1. ✖ 1035

2. ✖ 1265

3. ✔ 1495

4. ✖ 1725

Question Number : 86 Question Id : 54592747556 Question Type : MCQ Option Shuffling : Yes
Correct Marks : 1 Wrong Marks : 0.25

If $3Y1Y3Y$ is divisible by 44, then what is the value of Y?

Options :

1. ✖ 2

2. ✖ 4

3. ✔ 6

4. ✖ 8

Question Number : 86 Question Id : 54592747556 Question Type : MCQ Option Shuffling : Yes
Correct Marks : 1 Wrong Marks : 0.25

यदि $3Y1Y3Y$, 44 से विभाज्य है, तो Y का मान क्या है?

Options :

1. ✖ 2

2. ✖ 4

3. ✔ 6

4. ✖ 8

Question Number : 87 Question Id : 54592747557 Question Type : MCQ Option Shuffling : Yes
Correct Marks : 1 Wrong Marks : 0.25

If $978A28B$ is divisible by 72, then what is the value of $(A + B)$?

Options :

1. ✔ 11

2. ✖ 6

3. ✖ 4

4. ✖ 7

Question Number : 87 Question Id : 54592747557 Question Type : MCQ Option Shuffling : Yes
Correct Marks : 1 Wrong Marks : 0.25

यदि $978A28B$, 72 से विभाज्य है, तो $(A + B)$ का मान क्या है?

Options :

1. ✔ 11

2. ✖ 6

3. ✖ 4

4. ✖ 7

Question Number : 88 Question Id : 54592747558 Question Type : MCQ Option Shuffling : Yes
Correct Marks : 1 Wrong Marks : 0.25

What is that least perfect square which is exactly divisible by each of 21, 66 and 88?

Options :

1. ✓ 853776
2. ✗ 882978
3. ✗ 982166
4. ✗ 789120

Question Number : 88 Question Id : 54592747558 Question Type : MCQ Option Shuffling : Yes
Correct Marks : 1 Wrong Marks : 0.25

वह न्यूनतम पूर्ण वर्ग क्या है जो 21, 66 तथा 88 में से प्रत्येक से पूर्णतः विभाज्य है?

Options :

1. ✓ 853776
2. ✗ 882978
3. ✗ 982166
4. ✗ 789120

Question Number : 89 Question Id : 54592747559 Question Type : MCQ Option Shuffling : Yes
Correct Marks : 1 Wrong Marks : 0.25

The ratio of two numbers is 5 : 4 and their Least Common Multiple is 240. What are these two numbers?

Options :

1. ✓ 60 and 48
2. ✗ 40 and 60
3. ✗ 20 and 40
4. ✗ 28 and 90

Question Number : 89 Question Id : 54592747559 Question Type : MCQ Option Shuffling : Yes
Correct Marks : 1 Wrong Marks : 0.25

दो संख्याओं का अनुपात 5 : 4 है तथा उनका लघुत्तम समापवर्त्य 240 है। यह दो संख्याएँ क्या हैं?

Options :

1. ✓ 60 तथा 48

2. ✗ 40 तथा 60

3. ✗ 20 तथा 40

4. ✗ 28 तथा 90

Question Number : 90 Question Id : 54592747560 Question Type : MCQ Option Shuffling : Yes
Correct Marks : 1 Wrong Marks : 0.25

If the sum of two numbers is 30 and the difference between them is $\frac{1}{5}$ of their sum, then what is the Least Common Multiple of these numbers?

Options :

1. ✓ 36

2. ✗ 30

3. ✗ 34

4. ✗ 25

Question Number : 90 Question Id : 54592747560 Question Type : MCQ Option Shuffling : Yes
Correct Marks : 1 Wrong Marks : 0.25

यदि दो संख्याओं का योग 30 है तथा इनके बीच का अंतर इनके योग का $\frac{1}{5}$ है, तो इन संख्याओं का लघुत्तम समापवर्त्य क्या है?

Options :

1. ✓ 36

2. ✗ 30

3. ✗ 34

4. ✗ 25

Question Number : 91 Question Id : 54592747561 Question Type : MCQ Option Shuffling : Yes
Correct Marks : 1 Wrong Marks : 0.25

Average weight of 12 students is 56 kg. After including a new student in that group the average weight rises by 2 kg. What is the weight of the new student?

Options :

1. ✖ 72 kg
2. ✖ 78 kg
3. ✔ 82 kg
4. ✖ 84 kg

Question Number : 91 Question Id : 54592747561 Question Type : MCQ Option Shuffling : Yes

Correct Marks : 1 Wrong Marks : 0.25

12 विद्यार्थियों का औसत भार 56 कि.ग्रा. है। उस समूह में एक नए विद्यार्थी को शामिल करने से औसत भार 2 कि.ग्रा. से बढ़ जाता है। नए विद्यार्थी का भार क्या है?

Options :

1. ✖ 72 कि.ग्रा.
2. ✖ 78 कि.ग्रा.
3. ✔ 82 कि.ग्रा.
4. ✖ 84 कि.ग्रा.

Question Number : 92 Question Id : 54592747562 Question Type : MCQ Option Shuffling : Yes

Correct Marks : 1 Wrong Marks : 0.25

In a group of 18 men, two men whose average age is 58 years are replaced by two new men. If the average age of the group decreases by 2 years, then what is the average age of the two new men?

Options :

1. ✖ 36 years
2. ✖ 38 years
3. ✔ 40 years

4. * 42 years

Question Number : 92 Question Id : 54592747562 Question Type : MCQ Option Shuffling : Yes

Correct Marks : 1 Wrong Marks : 0.25

18 पुरुषों के एक समूह में, 58 वर्ष औसत आयु वाले दो पुरुषों को दो नए पुरुषों से बदल दिया जाता है। यदि समूह की औसत आयु 2 वर्ष से कम हो जाती है, तो दो नए पुरुषों की औसत आयु क्या है?

Options :

1. * 36 वर्ष

2. * 38 वर्ष

3. ✓ 40 वर्ष

4. * 42 वर्ष

Question Number : 93 Question Id : 54592747563 Question Type : MCQ Option Shuffling : Yes

Correct Marks : 1 Wrong Marks : 0.25

Average of 42 numbers is 24. If two numbers 26 and 34 are removed and four numbers 24, 14, 20 and 6 are added, then what is the new average?

Options :

1. * 26

2. * 25

3. * 24

4. ✓ 23

Question Number : 93 Question Id : 54592747563 Question Type : MCQ Option Shuffling : Yes

Correct Marks : 1 Wrong Marks : 0.25

42 संख्याओं का औसत 24 है। यदि दो संख्याओं 26 तथा 34 को हटा दिया जाता है और चार संख्याओं 24, 14, 20 तथा 6 को जोड़ा जाता है, तो नयी औसत क्या है?

Options :

1. ✖ 26

2. ✖ 25

3. ✖ 24

4. ✔ 23

Question Number : 94 Question Id : 54592747564 Question Type : MCQ Option Shuffling : Yes

Correct Marks : 1 Wrong Marks : 0.25

If 90% of A = 40% of B and B is $y/2\%$ of A, then what is the value of y?

Options :

1. ✔ 450

2. ✖ 400

3. ✖ 420

4. ✖ 460

Question Number : 94 Question Id : 54592747564 Question Type : MCQ Option Shuffling : Yes

Correct Marks : 1 Wrong Marks : 0.25

यदि A का 90% = B का 40% तथा B, A का $y/2\%$ है, तो y का मान क्या है?

Options :

1. ✔ 450

2. ✖ 400

3. ✖ 420

4. ✖ 460

Question Number : 95 Question Id : 54592747565 Question Type : MCQ Option Shuffling : Yes

Correct Marks : 1 Wrong Marks : 0.25

When a number is successively decreased by 40%, 30% and 25%, then it becomes 28350. What is that number?

Options :

1. ✖ 94000
2. ✖ 100000
3. ✖ 85000
4. ✔ 90000

Question Number : 95 Question Id : 54592747565 Question Type : MCQ Option Shuffling : Yes
Correct Marks : 1 Wrong Marks : 0.25

जब एक संख्या को क्रमिक रूप से 40%, 30% तथा 25% से कम किया जाता है, तो वह 28350 हो जाती है। संख्या क्या है?

Options :

1. ✖ 94000
2. ✖ 100000
3. ✖ 85000
4. ✔ 90000

Question Number : 96 Question Id : 54592747566 Question Type : MCQ Option Shuffling : Yes
Correct Marks : 1 Wrong Marks : 0.25

A number is firstly increased by 400%, then decreased by 50% and then again decreased by 46%. If the number becomes 4590, then what was the original number?

Options :

1. ✖ 5280
2. ✔ 3400
3. ✖ 4200
4. ✖ 4540

Question Number : 96 Question Id : 54592747566 Question Type : MCQ Option Shuffling : Yes
Correct Marks : 1 Wrong Marks : 0.25

एक संख्या को पहले 400% से बढ़ाया जाता है, फिर 50% से घटाया जाता है तथा फिर दोबारा 46% से घटाया जाता है। यदि संख्या 4590 बन जाती है, तो वास्तविक संख्या क्या थी?

Options :

1. ✖ 5280
2. ✔ 3400
3. ✖ 4200
4. ✖ 4540

Question Number : 97 Question Id : 54592747567 Question Type : MCQ Option Shuffling : Yes
Correct Marks : 1 Wrong Marks : 0.25

The cost price of an article is 80% of its selling price. What is the profit percentage?

Options :

1. ✔ 25 percent
2. ✖ 20 percent
3. ✖ 30 percent
4. ✖ 15 percent

Question Number : 97 Question Id : 54592747567 Question Type : MCQ Option Shuffling : Yes
Correct Marks : 1 Wrong Marks : 0.25

एक वस्तु का क्रय मूल्य उसके विक्रय मूल्य का 80% है। लाभ प्रतिशत क्या है?

Options :

1. ✔ 25 प्रतिशत
2. ✖ 20 प्रतिशत
3. ✖ 30 प्रतिशत
4. ✖ 15 प्रतिशत

Question Number : 98 Question Id : 54592747568 Question Type : MCQ Option Shuffling : Yes
Correct Marks : 1 Wrong Marks : 0.25

The ratio of cost price of first, second and third article is 2 : 3 : 5 respectively. A profit of 20% and 10% is earned on first and second article respectively and a loss of 10% is incurred on the third article. What is the overall profit / loss percent on three articles together?

Options :

1. * 3.5 percent, profit
2. * 1 percent, loss
3. ✓ 2 percent, profit
4. * 5 percent, loss

Question Number : 98 Question Id : 54592747568 Question Type : MCQ Option Shuffling : Yes
Correct Marks : 1 Wrong Marks : 0.25

पहली, दूसरी तथा तीसरी वस्तु के क्रय मूल्य का अनुपात क्रमशः 2 : 3 : 5 है। पहली तथा दूसरी वस्तु पर कमाया गया लाभ क्रमशः 20% तथा 10% है तथा तीसरी वस्तु पर 10% की हानि हुई है। तीनों वस्तुओं पर मिलाकर कुल लाभ/हानि प्रतिशत क्या है?

Options :

1. * 3.5 प्रतिशत, लाभ
2. * 1 प्रतिशत, हानि
3. ✓ 2 प्रतिशत, लाभ
4. * 5 प्रतिशत, हानि

Question Number : 99 Question Id : 54592747569 Question Type : MCQ Option Shuffling : Yes
Correct Marks : 1 Wrong Marks : 0.25

The ratio of cost price of first, second and third article is 4 : 3 : 6 respectively and ratio of their selling price is 5 : 6 : 8 respectively. The profit earned on first article is $\frac{3}{5}$ of the profit earned on third article. What is the ratio of their respective profits?

Options :

1. ✖ 6 : 7 : 4
2. ✖ 3 : 8 : 5
3. ✔ 6 : 9 : 10
4. ✖ 9 : 8 : 7

Question Number : 99 Question Id : 54592747569 Question Type : MCQ Option Shuffling : Yes

Correct Marks : 1 Wrong Marks : 0.25

पहली, दूसरी तथा तीसरी वस्तु के क्रय मूल्य का अनुपात क्रमशः 4 : 3 : 6 है तथा उनके विक्रय मूल्य का अनुपात क्रमशः 5 : 6 : 8 है। पहली वस्तु पर कमाया गया लाभ तीसरी वस्तु पर कमाये गये लाभ का $\frac{3}{5}$ है। उनके क्रमशः लाभ का अनुपात क्या है?

Options :

1. ✖ 6 : 7 : 4
2. ✖ 3 : 8 : 5
3. ✔ 6 : 9 : 10
4. ✖ 9 : 8 : 7

Question Number : 100 Question Id : 54592747570 Question Type : MCQ Option Shuffling : Yes

Correct Marks : 1 Wrong Marks : 0.25

If $(a/2) : (b/3) : (c/6) = 1 : 2 : 3$, then what is the value of $a : b : c$?

Options :

1. ✖ 3 : 6 : 2
2. ✖ 2 : 3 : 4

3. ✓ 1 : 3 : 9

4. ✗ 4 : 3 : 6

Question Number : 100 Question Id : 54592747570 Question Type : MCQ Option Shuffling : Yes

Correct Marks : 1 Wrong Marks : 0.25

यदि $(a/2) : (b/3) : (c/6) = 1 : 2 : 3$ है, तो $a : b : c$ का मान क्या है?

Options :

1. ✗ 3 : 6 : 2

2. ✗ 2 : 3 : 4

3. ✓ 1 : 3 : 9

4. ✗ 4 : 3 : 6

Arithmetic Ability2

Group Number :	6
Group Id :	5459272356
Group Maximum Duration :	0
Group Minimum Duration :	0
Show Attended Group? :	No
Edit Attended Group? :	No
Break time:	0
Group Marks:	20
Is this Group for Examiner? :	No
Revisit allowed for group Instructions? :	Yes
Maximum Instruction Time:	0
Minimum Instruction Time:	0

Arithmetic Ability2

Section Id :	5459272356
Section Number :	1
Section type :	Online
Mandatory or Optional:	Mandatory
Number of Questions:	20
Number of Questions to be attempted:	20
Section Marks:	20

Sub-Section Number: 1
Sub-Section Id: 5459272826
Question Shuffling Allowed : Yes

Question Number : 101 Question Id : 54592747571 Question Type : MCQ Option Shuffling : Yes
Correct Marks : 1 Wrong Marks : 0.25

If three numbers are in the ratio of 5 : 6 : 9 and the sum of their squares is 568, then what is the difference between the largest and the smallest number?

Options :

1. ✖ 4
2. ✔ 8
3. ✖ 16
4. ✖ 12

Question Number : 101 Question Id : 54592747571 Question Type : MCQ Option Shuffling : Yes
Correct Marks : 1 Wrong Marks : 0.25

यदि तीन संख्याओं का अनुपात 5 : 6 : 9 तथा उनके वर्गों का योग 568 है, तो सबसे बड़ी संख्या तथा सबसे छोटी संख्या के मध्य का अंतर क्या है?

Options :

1. ✖ 4
2. ✔ 8
3. ✖ 16
4. ✖ 12

Question Number : 102 Question Id : 54592747572 Question Type : MCQ Option Shuffling : Yes
Correct Marks : 1 Wrong Marks : 0.25

A sum of money is divided among A and B such that sum of $\frac{1}{3}$ of the A's share and $\frac{1}{5}$ of B's share is Rs. 250. If share of A and B are in the ratio of 9 : 10 respectively, then what is the total sum?

Options :

1. * Rs. 800

2. * Rs. 900

3. ✓ Rs. 950

4. * Rs. 860

Question Number : 102 Question Id : 54592747572 Question Type : MCQ Option Shuffling : Yes

Correct Marks : 1 Wrong Marks : 0.25

एक राशि A तथा B के मध्य इस प्रकार बाटी जाती हैं कि A के हिस्से का $\frac{1}{3}$ तथा B के हिस्से का $\frac{1}{5}$ का योग 250 रुपये है। यदि A तथा B के हिस्से का अनुपात क्रमशः 9 : 10 है, तो कुल राशि क्या है?

Options :

1. * 800 रुपये

2. * 900 रुपये

3. ✓ 950 रुपये

4. * 860 रुपये

Question Number : 103 Question Id : 54592747573 Question Type : MCQ Option Shuffling : Yes

Correct Marks : 1 Wrong Marks : 0.25

The difference between simple interest and compound interest on a sum for two years at the rate of 10% per annum is Rs. 150. What is the sum?

Options :

1. * Rs. 13000

2. ✓ Rs. 15000

3. * Rs. 16000

4. * Rs. 14000

Question Number : 103 Question Id : 54592747573 Question Type : MCQ Option Shuffling : Yes

Correct Marks : 1 Wrong Marks : 0.25

एक राशि पर 10% प्रति वर्ष की दर से दो वर्षों के साधारण ब्याज तथा चक्रवृद्धि ब्याज का अंतर 150 रुपये है। राशि क्या है?

Options :

1. ✖ 13000 रुपये
2. ✔ 15000 रुपये
3. ✖ 16000 रुपये
4. ✖ 14000 रुपये

Question Number : 104 Question Id : 54592747574 Question Type : MCQ Option Shuffling : Yes

Correct Marks : 1 Wrong Marks : 0.25

Rs. 4000 is kept at the rate of 20% per annum on compound interest (compounded half yearly). What is the compound interest after 18 months?

Options :

1. ✖ Rs. 1328
2. ✖ Rs. 1374
3. ✔ Rs. 1324
4. ✖ Rs. 1314

Question Number : 104 Question Id : 54592747574 Question Type : MCQ Option Shuffling : Yes

Correct Marks : 1 Wrong Marks : 0.25

4000 रुपये को 20% प्रति वर्ष की दर से चक्रवृद्धि ब्याज (अर्धवार्षिक संयोजन पर) पर रखा गया है। 18 महीने बाद चक्रवृद्धि ब्याज क्या है?

Options :

1. ✖ 1328 रुपये
2. ✖ 1374 रुपये
3. ✔ 1324 रुपये
4. ✖ 1314 रुपये

Question Number : 105 Question Id : 54592747575 Question Type : MCQ Option Shuffling : Yes
Correct Marks : 1 Wrong Marks : 0.25

The compound interest for first 2 year and first 3 years are Rs. 544 and Rs. 868 respectively. What is the rate of interest?

Options :

1. ✖ 10 percent
2. ✔ 12.5 percent
3. ✖ 15 percent
4. ✖ 17.5 percent

Question Number : 105 Question Id : 54592747575 Question Type : MCQ Option Shuffling : Yes
Correct Marks : 1 Wrong Marks : 0.25

पहले 2 वर्ष तथा पहले 3 वर्ष के लिए चक्रवृद्धि ब्याज क्रमशः 544 रुपये तथा 868 रुपये है। ब्याज की दर क्या है?

Options :

1. ✖ 10 प्रतिशत
2. ✔ 12.5 प्रतिशत
3. ✖ 15 प्रतिशत
4. ✖ 17.5 प्रतिशत

Question Number : 106 Question Id : 54592747576 Question Type : MCQ Option Shuffling : Yes
Correct Marks : 1 Wrong Marks : 0.25

A car travels from P to Q at the speed of 40 km/hr and from Q to P at the speed of 60 km/hr. What is the average speed of the car?

Options :

1. ✖ 50 km/hr
2. ✖ 52 km/hr
3. ✔ 48 km/hr
4. ✖ 49 km/hr

Question Number : 106 Question Id : 54592747576 Question Type : MCQ Option Shuffling : Yes
Correct Marks : 1 Wrong Marks : 0.25

एक गाड़ी P से Q, 40 कि.मी./घंटा की गति से तथा Q से P, 60 कि.मी./घंटा की गति से यात्रा करती है। गाड़ी की औसत गति क्या है?

Options :

1. ✖ 50 कि.मी./घंटा
2. ✖ 52 कि.मी./घंटा
3. ✔ 48 कि.मी./घंटा
4. ✖ 49 कि.मी./घंटा

Question Number : 107 Question Id : 54592747577 Question Type : MCQ Option Shuffling : Yes
Correct Marks : 1 Wrong Marks : 0.25

A train takes 15 seconds to pass a 200 metre long platform and 20 seconds to pass another 300 metre long platform. What is the length of the train?

Options :

1. ✖ 120 metre
2. ✖ 150 metre
3. ✔ 100 metre
4. ✖ 180 metre

Question Number : 107 Question Id : 54592747577 Question Type : MCQ Option Shuffling : Yes
Correct Marks : 1 Wrong Marks : 0.25

एक रेलगाड़ी 200 मीटर लम्बे प्लेटफार्म को पार करने में 15 सेकंड तथा 300 मीटर लम्बे प्लेटफार्म को पार करने में 20 सेकंड लेती है। रेलगाड़ी की लम्बाई क्या है?

Options :

1. ✖ 120 मीटर
2. ✖ 150 मीटर
3. ✔ 100 मीटर

4. * 180 मीटर

Question Number : 108 Question Id : 54592747578 Question Type : MCQ Option Shuffling : Yes
Correct Marks : 1 Wrong Marks : 0.25

The distance between A and B is 720 km. A train leaves A at 7 am and runs at a speed of 20 m/s. The train stops on the way for 1 hour 30 minutes. At what time train will reach at B?

Options :

1. ✓ 6:30 PM
2. * 4:00 PM
3. * 5:00 PM
4. * 4:30 PM

Question Number : 108 Question Id : 54592747578 Question Type : MCQ Option Shuffling : Yes
Correct Marks : 1 Wrong Marks : 0.25

A तथा B के मध्य की दूरी 720 कि.मी. है। एक रेलगाड़ी A से पूर्वाह्न 7 पर निकली है तथा 20 मी./से. की गति से चलती है। रेलगाड़ी रास्ते में 1 घंटा 30 मिनट रूकती है। रेलगाड़ी B पर किस समय पहुँचेगी?

Options :

1. ✓ 6 : 30 अपराह्न
2. * 4:00 अपराह्न
3. * 5:00 अपराह्न
4. * 4:30 अपराह्न

Question Number : 109 Question Id : 54592747579 Question Type : MCQ Option Shuffling : Yes
Correct Marks : 1 Wrong Marks : 0.25

Raja is 50% more efficient than Ram. If Ram can make a computer in 30 days, then Raja can make the same computer in how many days?

Options :

1. * 10 days

2. ✓ 20 days

3. ✗ 25 days

4. ✗ 15 days

Question Number : 109 Question Id : 54592747579 Question Type : MCQ Option Shuffling : Yes
Correct Marks : 1 Wrong Marks : 0.25

राजा, राम से 50% ज्यादा कार्यकुशल है। यदि राम एक कम्प्यूटर 30 दिनों में बना सकता है, तो राजा उसी कम्प्यूटर को कितने दिनों में बना सकता है?

Options :

1. ✗ 10 दिन

2. ✓ 20 दिन

3. ✗ 25 दिन

4. ✗ 15 दिन

Question Number : 110 Question Id : 54592747580 Question Type : MCQ Option Shuffling : Yes
Correct Marks : 1 Wrong Marks : 0.25

After working for 12 days, Shikha finds that only 40% of the work is done. She employs Tina who is 60% more efficient than Shikha. In how many days Tina alone can complete the whole work?

Note: For this question, discrepancy is found in question/answer. So, this question is ignored for all candidates.

Options :

1. 13 days

2. 14 days

3. 8 days

4. 12 days

Question Number : 110 Question Id : 54592747580 Question Type : MCQ Option Shuffling : Yes
Correct Marks : 1 Wrong Marks : 0.25

12 दिन कार्य करने के बाद, शिखा ने पाया कि केवल 40% कार्य पूरा हुआ है। वह टीना को काम में लेती है जिसकी कार्यकुशलता शिखा से 60% अधिक है। टीना अकेले उस कार्य को कितने दिन में पूरा करेगी?

Note: For this question, discrepancy is found in question/answer. So, this question is ignored for all candidates.

Options :

1. 13 दिन
2. 14 दिन
3. 8 दिन
4. 12 दिन

Question Number : 111 Question Id : 54592747581 Question Type : MCQ Option Shuffling : Yes

Correct Marks : 1 Wrong Marks : 0.25

Pipes A and B can fill a tank in 20 hours. Pipes B and C can fill the same tank in 12 hours. Pipes A and C can fill the same tank in 15 hours. In how many hours can B alone fill the same tank?

Options :

1. * 20 hours
2. * 25 hours
3. ✓ 30 hours
4. * 40 hours

Question Number : 111 Question Id : 54592747581 Question Type : MCQ Option Shuffling : Yes

Correct Marks : 1 Wrong Marks : 0.25

पाइप A तथा B एक टैंक को 20 घंटे में भर सकते हैं। पाइप B तथा C उसी टैंक को 12 घंटे में भर सकते हैं। पाइप A तथा C उसी टैंक को 15 घंटे में भर सकते हैं। B अकेले उसी टैंक को कितने घंटे में भर सकती है?

Options :

1. ✖ 20 घंटे

2. ✖ 25 घंटे

3. ✔ 30 घंटे

4. ✖ 40 घंटे

Question Number : 112 Question Id : 54592747582 Question Type : MCQ Option Shuffling : Yes
Correct Marks : 1 Wrong Marks : 0.25

The lengths of the diagonals of a rhombus are 10 cm and 15 cm respectively. What is the area of the rhombus?

Options :

1. ✖ 150 cm²

2. ✖ 100 cm²

3. ✔ 75 cm²

4. ✖ $75\sqrt{2}$ cm²

Question Number : 112 Question Id : 54592747582 Question Type : MCQ Option Shuffling : Yes
Correct Marks : 1 Wrong Marks : 0.25

एक समचतुर्भुज के विकर्णों की लंबाई क्रमशः 10 से.मी. और 15 से.मी. है। तो विषमकोण का क्षेत्रफल क्या है?

Options :

1. ✖ 150 से.मी.²

2. ✖ 100 से.मी.²

3. ✓ 75 से.मी.²

4. ✗ $75\sqrt{2}$ से.मी.²

Question Number : 113 Question Id : 54592747583 Question Type : MCQ Option Shuffling : Yes
Correct Marks : 1 Wrong Marks : 0.25

The radius of a right circular cone is 14 cm. If the height of the cone is thrice of its radius, then what is the volume of the cone?

Options :

1. ✗ 5748 cm³

2. ✗ 9624 cm³

3. ✓ 8624 cm³

4. ✗ 6287 cm³

Question Number : 113 Question Id : 54592747583 Question Type : MCQ Option Shuffling : Yes
Correct Marks : 1 Wrong Marks : 0.25

एक लंब गोलाकार शंकु की त्रिज्या 14 से.मी. है। यदि शंकु की ऊँचाई उसकी त्रिज्या की तीन गुना है, तो शंकु का आयतन क्या है?

Options :

1. ✗ 5748 से.मी.³

2. ✘ 9624 से.मी.³

3. ✔ 8624 से.मी.³

4. ✘ 6287 से.मी.³

Question Number : 114 Question Id : 54592747584 Question Type : MCQ Option Shuffling : Yes
Correct Marks : 1 Wrong Marks : 0.25

If the area of a circle inscribed in an equilateral triangle is 264 cm^2 , then what is the side of the length of the equilateral triangle?

Options :

1. ✘ $16\sqrt{7} \text{ cm}$

2. ✘ 24 cm

3. ✘ 14 cm

4. ✔ $12\sqrt{7} \text{ cm}$

Question Number : 114 Question Id : 54592747584 Question Type : MCQ Option Shuffling : Yes
Correct Marks : 1 Wrong Marks : 0.25

यदि एक समबाहु त्रिभुज में अंकित एक वृत्त का क्षेत्रफल 264 से.मी.^2 है, तो समबाहु त्रिभुज की भुजा की लंबाई क्या है?

Options :

1. ✘ $16\sqrt{7} \text{ से.मी.}$

2. ✘ 24 से.मी.

3. ✘ 14 से.मी.

4. ✔ $12\sqrt{7} \text{ से.मी.}$

Question Number : 115 Question Id : 54592747585 Question Type : MCQ Option Shuffling : Yes
Correct Marks : 1 Wrong Marks : 0.25

The table given below shows the runs scored by a batsman in 6 different matches.

Matches	Runs
M1	58
M2	72
M3	36
M4	104
M5	118
M6	19

What is the difference between highest and lowest runs scored by the batsman?

Options :

1. ✖ 74

2. ✖ 60

3. ✖ 85

4. ✔ 99

Question Number : 115 Question Id : 54592747585 Question Type : MCQ Option Shuffling : Yes

Correct Marks : 1 Wrong Marks : 0.25

नीचे दी गयी तालिका एक बल्लेबाज़ द्वारा 6 विभिन्न मैचों में बनाये गये रनों को दर्शाती है।

मैच	रन
M1	58
M2	72
M3	36
M4	104
M5	118
M6	19

बल्लेबाज़ द्वारा बनाये गये सर्वाधिक तथा न्यूनतम रनों के बीच का अंतर क्या है?

Options :

1. ✖ 74
2. ✖ 60
3. ✖ 85
4. ✔ 99

Question Number : 116 Question Id : 54592747586 Question Type : MCQ Option Shuffling : Yes

Correct Marks : 1 Wrong Marks : 0.25

The table given below shows the number of wallets manufactured by an industry on different days of a week.

Days	Number of Wallets
D1	200
D2	230
D3	180
D4	220
D5	225

What is the ratio of total number of wallets manufactured on all days together to the number of wallets manufactured on day D4?

Options :

1. ✖ 44 : 211
2. ✔ 211 : 44
3. ✖ 216 : 43
4. ✖ 43 : 216

Question Number : 116 Question Id : 54592747586 Question Type : MCQ Option Shuffling : Yes
Correct Marks : 1 Wrong Marks : 0.25

नीचे दी गयी तालिका एक सप्ताह के विभिन्न दिनों पर एक उद्योग द्वारा निर्मित पर्सों की संख्या को दर्शाती है।

दिन	पर्सों की संख्या
D1	200
D2	230
D3	180
D4	220
D5	225

सभी दिनों में मिलाकर निर्मित पर्सों की कुल संख्या का दिन D4 में निर्मित पर्सों की संख्या से क्या अनुपात है?

Options :

1. ✘ 44 : 211

2. ✔ 211 : 44

3. ✘ 216 : 43

4. ✘ 43 : 216

Question Number : 117 Question Id : 54592747587 Question Type : MCQ Option Shuffling : Yes

Correct Marks : 1 Wrong Marks : 0.25

The table given below shows the marks obtained by a student in different subjects.

Subjects	Marks
English	90
Science	81
Maths	99
Hindi	92

The marks obtained in English is how much percentage more than the marks obtained in science by the student?

Options :

- ✘ 5 percent
- ✘ 10 percent
- ✔ 11.11 percent
- ✘ 10.1 percent

Question Number : 117 Question Id : 54592747587 Question Type : MCQ Option Shuffling : Yes

Correct Marks : 1 Wrong Marks : 0.25

नीचे दी गयी तालिका एक छात्र द्वारा विभिन्न विषयों में प्राप्त अंकों को दर्शाती है।

विषय	अंक
अंग्रेजी	90
विज्ञान	81
गणित	99
हिन्दी	92

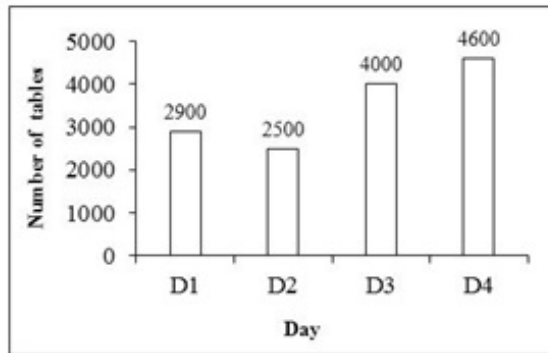
छात्र द्वारा अंग्रेजी में प्राप्त अंक विज्ञान में प्राप्त अंकों से कितने प्रतिशत अधिक है?

Options :

1. * 5 प्रतिशत
2. * 10 प्रतिशत
3. ✓ 11.11 प्रतिशत
4. * 10.1 प्रतिशत

Question Number : 118 Question Id : 54592747588 Question Type : MCQ Option Shuffling : Yes
Correct Marks : 1 Wrong Marks : 0.25

The bar graph given below shows the number of tables manufactured by a company on different days of a week.



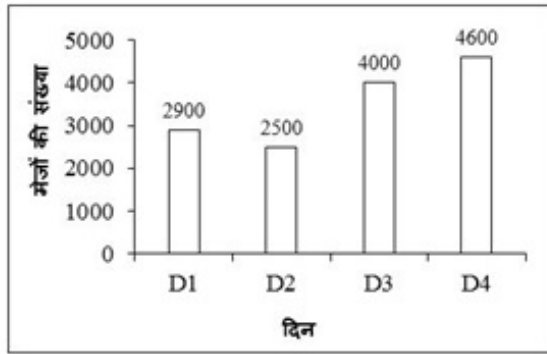
What are the total number of tables manufactured by the company on all days together?

Options :

1. ✘ 12000
2. ✔ 14000
3. ✘ 16000
4. ✘ 18000

Question Number : 118 Question Id : 54592747588 Question Type : MCQ Option Shuffling : Yes
Correct Marks : 1 Wrong Marks : 0.25

नीचे दिया गया दण्ड चित्र एक सप्ताह के विभिन्न दिनों में एक कंपनी द्वारा निर्मित मेजों की संख्या को दर्शाता है।



सभी दिनों में मिलाकर कंपनी द्वारा निर्मित मेजों की कुल संख्या क्या है?

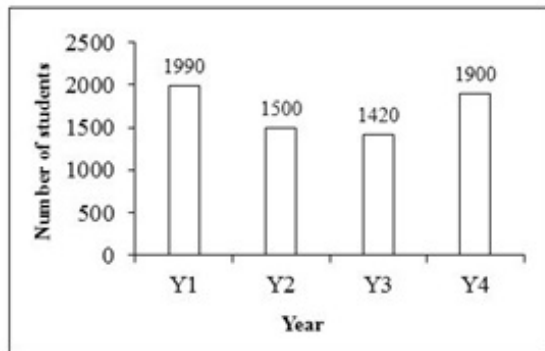
Options :

1. ✘ 12000
2. ✔ 14000
3. ✘ 16000
4. ✘ 18000

Question Number : 119 Question Id : 54592747589 Question Type : MCQ Option Shuffling : Yes

Correct Marks : 1 Wrong Marks : 0.25

The bar graph given below shows the number of students passed from a university in four consecutive years.




Number of students passed in year Y4 are what percentage of number of students passed in year Y1?

Options :

1. ✘ 92.47 percent
2. ✘ 93.47 percent
3. ✘ 94.47 percent
4. ✔ 95.47 percent

Question Number : 119 Question Id : 54592747589 Question Type : MCQ Option Shuffling : Yes
Correct Marks : 1 Wrong Marks : 0.25

नीचे दिया गया दण्ड चित्र चार क्रमागत वर्षों में एक विश्वविद्यालय से उत्तीर्ण हुए छात्रों की संख्या को दर्शाता है।



वर्ष Y4 में उत्तीर्ण हुए छात्रों की संख्या वर्ष Y1 में उत्तीर्ण हुए छात्रों की संख्या की कितनी प्रतिशत हैं?

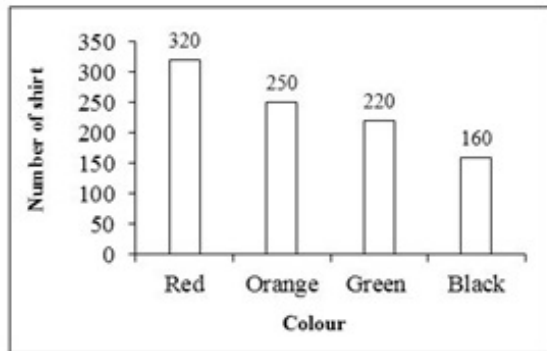
Options :

1. ✘ 92.47 प्रतिशत
2. ✘ 93.47 प्रतिशत
3. ✘ 94.47 प्रतिशत
4. ✔ 95.47 प्रतिशत

Question Number : 120 Question Id : 54592747590 Question Type : MCQ Option Shuffling : Yes

Correct Marks : 1 Wrong Marks : 0.25

The bar graph given below shows the number of shirts of different colour in a shop.



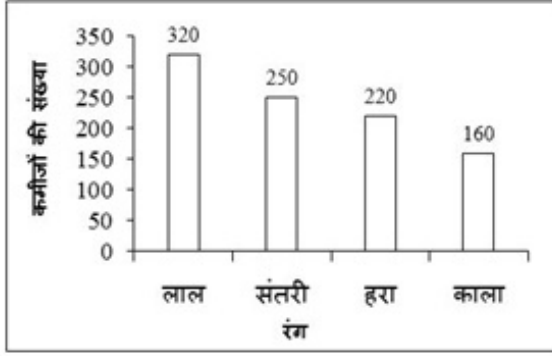
The number of red colour shirts are how much percentage more than the number of black colour shirts?

Options :

1. ✓ 100 percent
2. ✗ 200 percent
3. ✗ 300 percent
4. ✗ 400 percent

Question Number : 120 Question Id : 54592747590 Question Type : MCQ Option Shuffling : Yes
Correct Marks : 1 Wrong Marks : 0.25

नीचे दिया गया दण्ड चित्र एक दुकान में विभिन्न रंगों की कमीजों की संख्या को दर्शाता है।



लाल रंग की कमीजो की संख्या, काले रंग की कमीजो की संख्या से कितनी प्रतिशत अधिक है?

Options :

1. ✓ 100 प्रतिशत
2. ✗ 200 प्रतिशत
3. ✗ 300 प्रतिशत
4. ✗ 400 प्रतिशत

General English1

Group Number :	7
Group Id :	5459272357
Group Maximum Duration :	0
Group Minimum Duration :	0
Show Attended Group? :	No
Edit Attended Group? :	No
Break time:	0
Group Marks:	20
Is this Group for Examiner?:	No
Revisit allowed for group Instructions? :	Yes
Maximum Instruction Time:	0
Minimum Instruction Time:	0

General English1

Section Id :	5459272357
Section Number :	1
Section type :	Online
Mandatory or Optional:	Mandatory
Number of Questions:	20
Number of Questions to be attempted:	20
Section Marks:	20

Sub-Section Number:	1
Sub-Section Id:	5459272827
Question Shuffling Allowed :	Yes

Question Number : 121 Question Id : 54592747591 Question Type : MCQ Option Shuffling : Yes
Correct Marks : 1 Wrong Marks : 0.25

A sentence has been given with a blank to be filled with an appropriate word. Choose the correct alternative.

A book _____ bought.

Options :

1. ✖ will be
2. ✖ have been
3. ✔ has been
4. ✖ could have been

Question Number : 121 Question Id : 54592747591 Question Type : MCQ Option Shuffling : Yes
Correct Marks : 1 Wrong Marks : 0.25

A sentence has been given with a blank to be filled with an appropriate word. Choose the correct alternative.

A book _____ bought.

Options :

1. ✖ will be
2. ✖ have been

3. ✓ has been

4. ✗ could has been

Question Number : 122 Question Id : 54592747592 Question Type : MCQ Option Shuffling : Yes

Correct Marks : 1 Wrong Marks : 0.25

A sentence has been given with a blank to be filled with an appropriate word. Choose the correct alternative.

I could not _____ the consequences of my actions.

Options :

1. ✗ decide

2. ✗ let go of

3. ✗ suspect

4. ✓ foresee

Question Number : 122 Question Id : 54592747592 Question Type : MCQ Option Shuffling : Yes

Correct Marks : 1 Wrong Marks : 0.25

A sentence has been given with a blank to be filled with an appropriate word. Choose the correct alternative.

I could not _____ the consequences of my actions.

Options :

1. ✗ decide

2. ✗ let go of

3. ✗ suspect

4. ✓ foresee

Question Number : 123 Question Id : 54592747593 Question Type : MCQ Option Shuffling : Yes

Correct Marks : 1 Wrong Marks : 0.25

A sentence has been given with a blank to be filled with an appropriate word. Choose the correct alternative.

We have played better _____ you joined the team.

Options :

1. ✓ since
2. ✗ for
3. ✗ because
4. ✗ as

Question Number : 123 Question Id : 54592747593 Question Type : MCQ Option Shuffling : Yes
Correct Marks : 1 Wrong Marks : 0.25

A sentence has been given with a blank to be filled with an appropriate word. Choose the correct alternative.

We have played better _____ you joined the team.

Options :

1. ✓ since
2. ✗ for
3. ✗ because
4. ✗ as

Question Number : 124 Question Id : 54592747594 Question Type : MCQ Option Shuffling : Yes
Correct Marks : 1 Wrong Marks : 0.25

A sentence has been given with a blank to be filled with an appropriate word. Choose the correct alternative.

I am not sure _____ it would rain or not.

Options :

1. ✓ whether

2. ✖ weather

3. ✖ will

4. ✖ at all

Question Number : 124 Question Id : 54592747594 Question Type : MCQ Option Shuffling : Yes
Correct Marks : 1 Wrong Marks : 0.25

A sentence has been given with a blank to be filled with an appropriate word. Choose the correct alternative.

I am not sure _____ it would rain or not.

Options :

1. ✔ whether

2. ✖ weather

3. ✖ will

4. ✖ at all

Question Number : 125 Question Id : 54592747595 Question Type : MCQ Option Shuffling : Yes
Correct Marks : 1 Wrong Marks : 0.25

A sentence has been given with a blank to be filled with an appropriate word. Choose the correct alternative.

She told me _____ shout at my sister.

Options :

1. ✖ to not to

2. ✔ not to

3. ✖ to not

4. ✖ to need not

Question Number : 125 Question Id : 54592747595 Question Type : MCQ Option Shuffling : Yes
Correct Marks : 1 Wrong Marks : 0.25

A sentence has been given with a blank to be filled with an appropriate word. Choose the correct alternative.

She told me _____ shout at my sister.

Options :

1. ✘ to not to
2. ✔ not to
3. ✘ to not
4. ✘ to need not

Question Number : 126 Question Id : 54592747596 Question Type : MCQ Option Shuffling : Yes
Correct Marks : 1 Wrong Marks : 0.25

A sentence has been given with a blank to be filled with an appropriate word. Choose the correct alternative.

We were _____ going to the zoo, but it started raining.

Options :

1. ✘ set about
2. ✘ set to
3. ✔ set on
4. ✘ set for

Question Number : 126 Question Id : 54592747596 Question Type : MCQ Option Shuffling : Yes
Correct Marks : 1 Wrong Marks : 0.25

A sentence has been given with a blank to be filled with an appropriate word. Choose the correct alternative.

We were _____ going to the zoo, but it started raining.

Options :

1. ✖ set about

2. ✖ set to

3. ✔ set on

4. ✖ set for

Question Number : 127 Question Id : 54592747597 Question Type : MCQ Option Shuffling : Yes

Correct Marks : 1 Wrong Marks : 0.25

Find the part of the given sentence that has an error in it. If there is no error, choose 'No error'.

My uncle (1)/ sold his house (2)/ by a millionaire (3)/. No error (4)

Options :

1. ✖ 1

2. ✖ 2

3. ✔ 3

4. ✖ 4

Question Number : 127 Question Id : 54592747597 Question Type : MCQ Option Shuffling : Yes

Correct Marks : 1 Wrong Marks : 0.25

Find the part of the given sentence that has an error in it. If there is no error, choose 'No error'.

My uncle (1)/ sold his house (2)/ by a millionaire (3)/. No error (4)

Options :

1. ✖ 1

2. ✖ 2

3. ✓ 3

4. ✖ 4

Question Number : 128 Question Id : 54592747598 Question Type : MCQ Option Shuffling : Yes

Correct Marks : 1 Wrong Marks : 0.25

Find the part of the given sentence that has an error in it. If there is no error, choose 'No error'.

We didn't (1)/ have to go to (2)/ school in Saturdays (3)/. No error (4)

Options :

1. ✖ 1

2. ✖ 2

3. ✓ 3

4. ✖ 4

Question Number : 128 Question Id : 54592747598 Question Type : MCQ Option Shuffling : Yes

Correct Marks : 1 Wrong Marks : 0.25

Find the part of the given sentence that has an error in it. If there is no error, choose 'No error'.

We didn't (1)/ have to go to (2)/ school in Saturdays (3)/. No error (4)

Options :

1. ✖ 1

2. ✖ 2

3. ✓ 3

4. ✖ 4

Question Number : 129 Question Id : 54592747599 Question Type : MCQ Option Shuffling : Yes
Correct Marks : 1 Wrong Marks : 0.25

Find the part of the given sentence that has an error in it. If there is no error, choose 'No error'.

We rejoiced (1)/ at them winning (2)/ the match (3)/. No error (4)

Options :

1. ✖ 1

2. ✔ 2

3. ✖ 3

4. ✖ 4

Question Number : 129 Question Id : 54592747599 Question Type : MCQ Option Shuffling : Yes
Correct Marks : 1 Wrong Marks : 0.25

Find the part of the given sentence that has an error in it. If there is no error, choose 'No error'.

We rejoiced (1)/ at them winning (2)/ the match (3)/. No error (4)

Options :

1. ✖ 1

2. ✔ 2

3. ✖ 3

4. ✖ 4

Question Number : 130 Question Id : 54592747600 Question Type : MCQ Option Shuffling : Yes
Correct Marks : 1 Wrong Marks : 0.25

Choose an idiom which means:

To achieve two tasks in one attempt

Options :

1. ✓ To kill two birds with one stone
2. ✗ To put all eggs in one basket
3. ✗ None of your business
4. ✗ To take the cake

Question Number : 130 Question Id : 54592747600 Question Type : MCQ Option Shuffling : Yes

Correct Marks : 1 Wrong Marks : 0.25

Choose an idiom which means:

To achieve two tasks in one attempt

Options :

1. ✓ To kill two birds with one stone
2. ✗ To put all eggs in one basket
3. ✗ None of your business
4. ✗ To take the cake

Question Number : 131 Question Id : 54592747601 Question Type : MCQ Option Shuffling : Yes

Correct Marks : 1 Wrong Marks : 0.25

Choose the word that can substitute the given sentence.

A person having a sophisticated charm

Options :

1. ✓ Debonair
2. ✗ Cosmopolitan
3. ✗ Cynosure

4. * Epicure

Question Number : 131 Question Id : 54592747601 Question Type : MCQ Option Shuffling : Yes
Correct Marks : 1 Wrong Marks : 0.25

Choose the word that can substitute the given sentence.

A person having a sophisticated charm

Options :

1. ✓ Debonair
2. * Cosmopolitan
3. * Cynosure
4. * Epicure

Question Number : 132 Question Id : 54592747602 Question Type : MCQ Option Shuffling : Yes
Correct Marks : 1 Wrong Marks : 0.25

Choose the word that can substitute the given sentence.

A person employed to drive a private or hired car

Options :

1. * Bigot
2. ✓ Chauffeur
3. * Invigilator
4. * Jockey

Question Number : 132 Question Id : 54592747602 Question Type : MCQ Option Shuffling : Yes
Correct Marks : 1 Wrong Marks : 0.25

Choose the word that can substitute the given sentence.

A person employed to drive a private or hired car

Options :

1. ✖ Bigot
2. ✔ Chauffeur
3. ✖ Invigilator
4. ✖ Jockey

Question Number : 133 Question Id : 54592747603 Question Type : MCQ Option Shuffling : Yes
Correct Marks : 1 Wrong Marks : 0.25

Choose the word that can substitute the given sentence.

An extreme or irrational fear of heights

Options :

1. ✖ Graphophobia
2. ✖ Ergophobia
3. ✔ Acrophobia
4. ✖ Cacophobia

Question Number : 133 Question Id : 54592747603 Question Type : MCQ Option Shuffling : Yes
Correct Marks : 1 Wrong Marks : 0.25

Choose the word that can substitute the given sentence.

An extreme or irrational fear of heights

Options :

1. ✖ Graphophobia
2. ✖ Ergophobia
3. ✔ Acrophobia
4. ✖ Cacophobia

Question Number : 134 Question Id : 54592747604 Question Type : MCQ Option Shuffling : Yes
Correct Marks : 1 Wrong Marks : 0.25

Rearrange the parts of the sentence in correct order.

Psychological flexibility

P: is the key to

Q: greater happiness

R: and well-being

Options :

1. ✖ PRQ

2. ✔ PQR

3. ✖ QRP

4. ✖ RQP

Question Number : 134 Question Id : 54592747604 Question Type : MCQ Option Shuffling : Yes

Correct Marks : 1 Wrong Marks : 0.25

Rearrange the parts of the sentence in correct order.

Psychological flexibility

P: is the key to

Q: greater happiness

R: and well-being

Options :

1. ✖ PRQ

2. ✔ PQR

3. ✖ QRP

4. ✖ RQP

Question Number : 135 Question Id : 54592747605 Question Type : MCQ Option Shuffling : Yes

Correct Marks : 1 Wrong Marks : 0.25

In the given question, four words are given out of which one word is correctly spelt. Choose the correctly spelt word.

Options :

1. ✓ Athlete
2. ✗ Ethlete
3. ✗ Athllete
4. ✗ Athlette

Question Number : 135 Question Id : 54592747605 Question Type : MCQ Option Shuffling : Yes
Correct Marks : 1 Wrong Marks : 0.25

In the given question, four words are given out of which one word is correctly spelt. Choose the correctly spelt word.

Options :

1. ✓ Athlete
2. ✗ Ethlete
3. ✗ Athllete
4. ✗ Athlette

Question Number : 136 Question Id : 54592747606 Question Type : MCQ Option Shuffling : Yes
Correct Marks : 1 Wrong Marks : 0.25

Choose an odd one out:

Options :

1. ✗ courteous
2. ✓ embolden
3. ✗ humble
4. ✗ timid

Question Number : 136 Question Id : 54592747606 Question Type : MCQ Option Shuffling : Yes
Correct Marks : 1 Wrong Marks : 0.25

Choose an odd one out:

Options :

1. ✖ courteous

2. ✔ embolden

3. ✖ humble

4. ✖ timid

Question Number : 137 Question Id : 54592747607 Question Type : MCQ Option Shuffling : Yes

Correct Marks : 1 Wrong Marks : 0.25

Choose the word that means the same as the given word.

ELOQUENCE

Options :

1. ✔ expression

2. ✖ halting

3. ✖ stammering

4. ✖ devil

Question Number : 137 Question Id : 54592747607 Question Type : MCQ Option Shuffling : Yes

Correct Marks : 1 Wrong Marks : 0.25

Choose the word that means the same as the given word.

ELOQUENCE

Options :

1. ✔ expression

2. ✖ halting

3. ✖ stammering

4. ✖ devil

Question Number : 138 Question Id : 54592747608 Question Type : MCQ Option Shuffling : Yes

Correct Marks : 1 Wrong Marks : 0.25

Choose the word that is opposite in meaning to the given word.

TENACIOUS

Options :

1. ✖ stubborn
2. ✖ dodge
3. ✔ docile
4. ✖ lively

Question Number : 138 Question Id : 54592747608 Question Type : MCQ Option Shuffling : Yes
Correct Marks : 1 Wrong Marks : 0.25

Choose the word that is opposite in meaning to the given word.

TENACIOUS

Options :

1. ✖ stubborn
2. ✖ dodge
3. ✔ docile
4. ✖ lively

Question Number : 139 Question Id : 54592747609 Question Type : MCQ Option Shuffling : Yes
Correct Marks : 1 Wrong Marks : 0.25

Improve the bracketed part of the sentence.

Ravi likes milk, (is it)?

Options :

1. ✔ doesn't he

2. ✖ don't he

3. ✖ will he

4. ✖ No Improvement

Question Number : 139 Question Id : 54592747609 Question Type : MCQ Option Shuffling : Yes
Correct Marks : 1 Wrong Marks : 0.25

Improve the bracketed part of the sentence.

Ravi likes milk, (is it)?

Options :

1. ✔ doesn't he

2. ✖ don't he

3. ✖ will he

4. ✖ No Improvement

Question Number : 140 Question Id : 54592747610 Question Type : MCQ Option Shuffling : Yes
Correct Marks : 1 Wrong Marks : 0.25

Improve the bracketed part of the sentence.

I wish I (was) a singer.

Options :

1. ✖ had been

2. ✔ were

3. ✖ shall be

4. ✖ No Improvement

Question Number : 140 Question Id : 54592747610 Question Type : MCQ Option Shuffling : Yes
Correct Marks : 1 Wrong Marks : 0.25

Improve the bracketed part of the sentence.

I wish I (was) a singer.

Options :

1. ✖ had been

2. ✔ were

3. ✖ shall be

4. ✖ No Improvement

General English2

Group Number :	8
Group Id :	5459272358
Group Maximum Duration :	0
Group Minimum Duration :	0
Show Attended Group? :	No
Edit Attended Group? :	No
Break time:	0
Group Marks:	20
Is this Group for Examiner?:	No
Revisit allowed for group Instructions? :	Yes
Maximum Instruction Time:	0
Minimum Instruction Time:	0

General English2

Section Id :	5459272358
Section Number :	1
Section type :	Online
Mandatory or Optional:	Mandatory
Number of Questions:	16
Number of Questions to be attempted:	16
Section Marks:	20

Sub-Section Number:	1
Sub-Section Id:	5459272828
Question Shuffling Allowed :	Yes

Correct Marks : 1 Wrong Marks : 0.25

Improve the bracketed part of the sentence.

(Can I) give you some tea?

Options :

1. ✖ Will I
2. ✔ Shall I
3. ✖ Ought I
4. ✖ No Improvement

Question Number : 141 Question Id : 54592747611 Question Type : MCQ Option Shuffling : Yes

Correct Marks : 1 Wrong Marks : 0.25

Improve the bracketed part of the sentence.

(Can I) give you some tea?

Options :

1. ✖ Will I
2. ✔ Shall I
3. ✖ Ought I
4. ✖ No Improvement

Question Number : 142 Question Id : 54592747612 Question Type : MCQ Option Shuffling : Yes

Correct Marks : 1 Wrong Marks : 0.25

A sentence has been given with a blank to be filled with an appropriate word. Choose the correct alternative.

She loves to _____ .

Options :

1. ✖ dancing
2. ✔ dance

3. ✖ danced

4. ✖ dances

Question Number : 142 Question Id : 54592747612 Question Type : MCQ Option Shuffling : Yes

Correct Marks : 1 Wrong Marks : 0.25

A sentence has been given with a blank to be filled with an appropriate word. Choose the correct alternative.

She loves to _____ .

Options :

1. ✖ dancing

2. ✔ dance

3. ✖ danced

4. ✖ dances

Question Number : 143 Question Id : 54592747613 Question Type : MCQ Option Shuffling : Yes

Correct Marks : 1 Wrong Marks : 0.25

Find the part of the given sentence that has an error in it. If there is no error, choose 'No error'.

The man (1)/ was threw (2)/ stones at the birds (3)/. No error (4)

Options :

1. ✖ 1

2. ✔ 2

3. ✖ 3

4. ✖ 4

Question Number : 143 Question Id : 54592747613 Question Type : MCQ Option Shuffling : Yes

Correct Marks : 1 Wrong Marks : 0.25

Find the part of the given sentence that has an error in it. If there is no error, choose 'No error'.

The man (1)/ was threw (2)/ stoness at the birds (3)/. No error (4)

Options :

1. ✖ 1

2. ✔ 2

3. ✖ 3

4. ✖ 4

Question Number : 144 Question Id : 54592747614 Question Type : MCQ Option Shuffling : Yes

Correct Marks : 1 Wrong Marks : 0.25

In the following question, out of the given four alternatives, select the alternative which best expresses the meaning of the Idiom/Phrase.

A black spot

Options :

1. ✖ To be in someone's favour

2. ✔ A poor point

3. ✖ Hypocritic at tears

4. ✖ Big things

Question Number : 144 Question Id : 54592747614 Question Type : MCQ Option Shuffling : Yes

Correct Marks : 1 Wrong Marks : 0.25

In the following question, out of the given four alternatives, select the alternative which best expresses the meaning of the Idiom/Phrase.

A black spot

Options :

1. ✖ To be in someone's favour
2. ✔ A poor point
3. ✖ Hypocritic at tears
4. ✖ Big things

Question Number : 145 Question Id : 54592747615 Question Type : MCQ Option Shuffling : Yes

Correct Marks : 1 Wrong Marks : 0.25

Rearrange the parts of the sentence in correct order.

Friends are

P: people we love

Q: time with

R: to spend

Options :

1. ✖ RQP
2. ✖ RPQ
3. ✖ QRP
4. ✔ PRQ

Question Number : 145 Question Id : 54592747615 Question Type : MCQ Option Shuffling : Yes

Correct Marks : 1 Wrong Marks : 0.25

Rearrange the parts of the sentence in correct order.

Friends are

P: people we love

Q: time with

R: to spend

Options :

1. ✖ RQP

2. ✖ RPQ

3. ✖ QRP

4. ✔ PRQ

Question Number : 146 Question Id : 54592747616 Question Type : MCQ Option Shuffling : Yes

Correct Marks : 1 Wrong Marks : 0.25

In the given question, four words are given out of which one word is correctly spelt. Choose the correctly spelt word.

Options :

1. ✖ Jeneral

2. ✔ General

3. ✖ Generul

4. ✖ Geniral

Question Number : 146 Question Id : 54592747616 Question Type : MCQ Option Shuffling : Yes

Correct Marks : 1 Wrong Marks : 0.25

In the given question, four words are given out of which one word is correctly spelt. Choose the correctly spelt word.

Options :

1. ✖ Jeneral

2. ✓ General

3. ✗ General

4. ✗ General

Question Number : 147 Question Id : 54592747617 Question Type : MCQ Option Shuffling : Yes
Correct Marks : 1 Wrong Marks : 0.25

Choose the word that is opposite in meaning to the given word.

ACCEPTANCE

Options :

1. ✗ praise

2. ✓ denial

3. ✗ repel

4. ✗ reveal

Question Number : 147 Question Id : 54592747617 Question Type : MCQ Option Shuffling : Yes
Correct Marks : 1 Wrong Marks : 0.25

Choose the word that is opposite in meaning to the given word.

ACCEPTANCE

Options :

1. ✗ praise

2. ✓ denial

3. ✗ repel

4. ✗ reveal

Question Number : 148 Question Id : 54592747618 Question Type : MCQ Option Shuffling : Yes
Correct Marks : 1 Wrong Marks : 0.25

Improve the bracketed part of the sentence.

(That) socks are mine.

Options :

1. ✖ Their
2. ✔ Those
3. ✖ Them
4. ✖ No Improvement

Question Number : 148 Question Id : 54592747618 Question Type : MCQ Option Shuffling : Yes
Correct Marks : 1 Wrong Marks : 0.25

Improve the bracketed part of the sentence.

(That) socks are mine.

Options :

1. ✖ Their
2. ✔ Those
3. ✖ Them
4. ✖ No Improvement

Question Number : 149 Question Id : 54592747619 Question Type : MCQ Option Shuffling : Yes
Correct Marks : 1 Wrong Marks : 0.25

A sentence has been given with a blank to be filled with an appropriate word. Choose the correct alternative.

I _____ living here for two years.

Options :

1. ✖ am
2. ✔ have been

3. ✖ have

4. ✖ shall been

Question Number : 149 Question Id : 54592747619 Question Type : MCQ Option Shuffling : Yes

Correct Marks : 1 Wrong Marks : 0.25

A sentence has been given with a blank to be filled with an appropriate word. Choose the correct alternative.

I _____ living here for two years.

Options :

1. ✖ am

2. ✔ have been

3. ✖ have

4. ✖ shall been

Question Number : 150 Question Id : 54592747620 Question Type : MCQ Option Shuffling : Yes

Correct Marks : 1 Wrong Marks : 0.25

Find the part of the given sentence that has an error in it. If there is no error, choose 'No error'.

She will be (1)/ visit us (2)/ the next month (3)/. No error (4)

Options :

1. ✖ 1

2. ✔ 2

3. ✖ 3

4. ✖ 4

Question Number : 150 Question Id : 54592747620 Question Type : MCQ Option Shuffling : Yes

Correct Marks : 1 Wrong Marks : 0.25

Find the part of the given sentence that has an error in it.
If there is no error, choose 'No error'.

She will be (1)/ visit us (2)/ the next month (3)/. No error
(4)

Options :

1. ✖ 1

2. ✔ 2

3. ✖ 3

4. ✖ 4

Question Number : 151 Question Id : 54592747621 Question Type : MCQ Option Shuffling : Yes
Correct Marks : 1 Wrong Marks : 0.25

Choose an idiom which means.

To address the true nature of someone

Options :

1. ✖ In cold blood

2. ✔ To call a spade a spade

3. ✖ To bend backwards

4. ✖ No one's business

Question Number : 151 Question Id : 54592747621 Question Type : MCQ Option Shuffling : Yes
Correct Marks : 1 Wrong Marks : 0.25

Choose an idiom which means.

To address the true nature of someone

Options :

1. ✖ In cold blood

2. ✓ To call a spade a spade

3. ✗ To bend backwards

4. ✗ No one's business

Question Number : 152 Question Id : 54592747622 Question Type : MCQ Option Shuffling : Yes
Correct Marks : 1 Wrong Marks : 0.25

Rearrange the parts of the sentence in correct order.

The work had been

P: all I wanted to do

Q: was get some sleep

R: quite hectic, and

Options :

1. ✗ PRQ

2. ✓ RPQ

3. ✗ QRP

4. ✗ RQP

Question Number : 152 Question Id : 54592747622 Question Type : MCQ Option Shuffling : Yes
Correct Marks : 1 Wrong Marks : 0.25

Rearrange the parts of the sentence in correct order.

The work had been

P: all I wanted to do

Q: was get some sleep

R: quite hectic, and

Options :

1. ✗ PRQ

2. ✓ RPQ

3. ✖ QRP

4. ✖ RQP

Question Number : 153 Question Id : 54592747623 Question Type : MCQ Option Shuffling : Yes

Correct Marks : 1 Wrong Marks : 0.25

In the given question, four words are given out of which one word is correctly spelt. Choose the correctly spelt word.

Options :

1. ✖ Centtre

2. ✔ Centre

3. ✖ Centree

4. ✖ Sentre

Question Number : 153 Question Id : 54592747623 Question Type : MCQ Option Shuffling : Yes

Correct Marks : 1 Wrong Marks : 0.25

In the given question, four words are given out of which one word is correctly spelt. Choose the correctly spelt word.

Options :

1. ✖ Centtre

2. ✔ Centre

3. ✖ Centree

4. ✖ Sentre

Question Number : 154 Question Id : 54592747624 Question Type : MCQ Option Shuffling : Yes

Correct Marks : 1 Wrong Marks : 0.25

Choose the word that is similar in meaning to the given word.

ABUNDANT

Options :

1. ✖ meager

2. ✓ copious

3. ✗ scarce

4. ✗ inadequate

Question Number : 154 Question Id : 54592747624 Question Type : MCQ Option Shuffling : Yes
Correct Marks : 1 Wrong Marks : 0.25

Choose the word that is similar in meaning to the given word.

ABUNDANT

Options :

1. ✗ meager

2. ✓ copious

3. ✗ scarce

4. ✗ inadequate

Question Number : 155 Question Id : 54592747625 Question Type : MCQ Option Shuffling : Yes
Correct Marks : 1 Wrong Marks : 0.25

Improve the bracketed part of the sentence.

He scoffed (at) the idea of revolt.

Options :

1. ✗ about

2. ✗ for

3. ✗ on

4. ✓ No Improvement

Question Number : 155 Question Id : 54592747625 Question Type : MCQ Option Shuffling : Yes
Correct Marks : 1 Wrong Marks : 0.25

Improve the bracketed part of the sentence.

He scoffed (at) the idea of revolt.

Options :

1. ✖ about

2. ✖ for

3. ✖ on

4. ✔ No Improvement

Sub-Section Number:	2
Sub-Section Id:	5459272829
Question Shuffling Allowed :	Yes

Question Id : 54592747626 Question Type : COMPREHENSION Sub Question Shuffling Allowed : Yes Group Comprehension Questions : No

Question Numbers : (156 to 160)

Question Label : Comprehension

Read the following information carefully and answer the given questions.

Gender roles are attitudes and behavior that a society expects from males and females. Society tells what traits each gender is supposed to follow. Although it is traditionally assumed that males are the breadwinners and women are the homemakers, times have changed now.

For years females have been expected to take care of the family and the males to provide for the family. The family, the peer group, the school, and the mass media are all socializing agents in deciding what our gender role should be. Although taking care of the children has not changed as much as working, males have begun to help with childcare more now because females are not at home as often since they are most likely working. The majority of the younger couples with children believe that it is more of a joint effort.

Since women were supposed to take care of the family they never had a chance to further their education by going to college. Even if a girl did want to go to college she would be told not to by everyone since it was socially accepted. Today more females have been attending college than ever before. Moreover, the thought that politics was a male occupation has also changed in recent years. Hilary Clinton for instance was running for president not many years ago. If a woman would have ran for president several years ago than she most likely would have received no votes.

Today the scenario has changed and females have equal rights with men. Females have gained in the workforce and in politics. Society is starting to become more egalitarian between males and females. Sexism, which is prejudice and discrimination based on one's gender, is coming to an end. If sexism had not existed in our society then we would have attained gender equality long ago.

Sub questions

Question Number : 156 Question Id : 54592747627 Question Type : MCQ Option Shuffling : Yes

Correct Marks : 1 Wrong Marks : 0.25

According to the passage who plays a role in deciding what our gender roles should be?

Options :

1. ✖ The hierarchical system of the society
2. ✖ Doctrines and traditions
3. ✔ Socializing agents
4. ✖ Person's own beliefs and educational background

Question Number : 157 Question Id : 54592747628 Question Type : MCQ Option Shuffling : Yes

Correct Marks : 1 Wrong Marks : 0.25

What is the author trying to convey in the passage?

Options :

1. ✖ That there is a need to educate women so that they can contribute to the family financially.
2. ✖ A country can only progress if the leader of the country is a woman.
3. ✖ That women and men have exchanged roles in modern times.
4. ✔ That the role of women have changed in the past decades and now they are coming out as equal to men in every field.

Question Number : 158 Question Id : 54592747629 Question Type : MCQ Option Shuffling : Yes

Correct Marks : 1 Wrong Marks : 0.25

What does the word 'egalitarian' mean in the passage?

Options :

1. ✖ Tyrannical
2. ✖ Communal
3. ✔ Democratic
4. ✖ Social

Question Number : 159 Question Id : 54592747630 Question Type : MCQ Option Shuffling : Yes

Correct Marks : 1 Wrong Marks : 0.25

What is a barrier to gender equality?

Options :

1. ✖ Egalitarianism
2. ✔ Sexism
3. ✖ Gender
4. ✖ Tradition

Question Number : 160 Question Id : 54592747631 Question Type : MCQ Option Shuffling : Yes

Correct Marks : 1 Wrong Marks : 0.25

Roles of women have changed in which of the fields according to the author?

Options :

1. ✔ Work, politics and home
2. ✖ Media, tradition, culture and society
3. ✖ Home, work, culture and society
4. ✖ Politics, society and mass media

Question Id : 54592747626 Question Type : COMPREHENSION Sub Question Shuffling Allowed : Yes Group Comprehension Questions : No

Question Numbers : (156 to 160)

Question Label : Comprehension

Read the following information carefully and answer the given questions.

Gender roles are attitudes and behavior that a society expects from males and females. Society tells what traits each gender is supposed to follow. Although it is traditionally assumed that males are the breadwinners and women are the homemakers, times have changed now. For years females have been expected to take care of the family and the males to provide for the family. The family, the peer group, the school, and the mass media are all socializing agents in deciding what our gender role should be. Although taking care of the children has not changed as much as working, males have begun to help with childcare more now because females are not at home as often since they are most likely working. The majority of the younger couples with children believe that it is more of a joint effort. Since women were supposed to take care of the family they never had a chance to further their education by going to college. Even if a girl did want to go to college she would be told not to by everyone since it was socially accepted. Today more females have been attending college than ever before. Moreover, the thought that politics was a male occupation has also changed in recent years. Hilary Clinton for instance was running for president not many years ago. If a woman would have ran for president several years ago than she most likely would have received no votes. Today the scenario has changed and females have equal rights with men. Females have gained in the workforce and in politics. Society is starting to become more egalitarian between males and females. Sexism, which is prejudice and discrimination based on one's gender, is coming to an end. If sexism had not existed in our society then we would have attained gender equality long ago.

Sub questions

Question Number : 156 Question Id : 54592747627 Question Type : MCQ Option Shuffling : Yes
Correct Marks : 1 Wrong Marks : 0.25

According to the passage who plays a role in deciding what our gender roles should be?

Options :

1. ✘ The hierarchical system of the society
2. ✘ Doctrines and traditions
3. ✔ Socializing agents
4. ✘ Person's own beliefs and educational background

Question Number : 157 Question Id : 54592747628 Question Type : MCQ Option Shuffling : Yes
Correct Marks : 1 Wrong Marks : 0.25

What is the author trying to convey in the passage?

Options :

1. ✘ That there is a need to educate women so that they can contribute to the family financially.
2. ✘ A country can only progress if the leader of the country is a woman.
3. ✘ That women and men have exchanged roles in modern times.
4. ✔ That the role of women have changed in the past decades and now they are coming out as equal to men in every field.

Question Number : 158 Question Id : 54592747629 Question Type : MCQ Option Shuffling : Yes
Correct Marks : 1 Wrong Marks : 0.25

What does the word 'egalitarian' mean in the passage?

Options :

1. ✖ Tyrannical
2. ✖ Communal
3. ✔ Democratic
4. ✖ Social

Question Number : 159 Question Id : 54592747630 Question Type : MCQ Option Shuffling : Yes
Correct Marks : 1 Wrong Marks : 0.25

What is a barrier to gender equality?

Options :

1. ✖ Egalitarianism
2. ✔ Sexism
3. ✖ Gender
4. ✖ Tradition

Question Number : 160 Question Id : 54592747631 Question Type : MCQ Option Shuffling : Yes
Correct Marks : 1 Wrong Marks : 0.25

Roles of women have changed in which of the fields according to the author?

Options :

1. ✔ Work, politics and home
2. ✖ Media, tradition, culture and society
3. ✖ Home, work, culture and society
4. ✖ Politics, society and mass media

General Hindi1

Group Number :	9
Group Id :	5459272359
Group Maximum Duration :	0
Group Minimum Duration :	0

Show Attended Group? :	No
Edit Attended Group? :	No
Break time:	0
Group Marks:	20
Is this Group for Examiner?:	No
Revisit allowed for group Instructions? :	Yes
Maximum Instruction Time:	0
Minimum Instruction Time:	0

General Hindi1

Section Id :	5459272359
Section Number :	1
Section type :	Online
Mandatory or Optional:	Mandatory
Number of Questions:	20
Number of Questions to be attempted:	20
Section Marks:	20

Sub-Section Number:	1
Sub-Section Id:	5459272830
Question Shuffling Allowed :	Yes

Question Number : 161 Question Id : 54592747632 Question Type : MCQ Option Shuffling : Yes
Correct Marks : 1 Wrong Marks : 0.25

दिए गए शब्द का संधि विच्छेद ज्ञात कीजिए।

वीरौदार्य

Options :

1. ✓ वीर + औदार्य
2. * वीरौ + दार्य
3. * वीर + औदार्य
4. * वीरौदा + र्य

Question Number : 161 Question Id : 54592747632 Question Type : MCQ Option Shuffling : Yes
Correct Marks : 1 Wrong Marks : 0.25

दिए गए शब्द का संधि विच्छेद ज्ञात कीजिए।

वीरौदार्य

Options :

1. ✓ वीर + औदार्य

2. ✘ वीरौ + दार्य

3. ✘ वीर + औदारय

4. ✘ वीरौदा + र्य

Question Number : 162 Question Id : 54592747633 Question Type : MCQ Option Shuffling : Yes
Correct Marks : 1 Wrong Marks : 0.25

दिए गए शब्द में उपसर्ग ज्ञात कीजिए।

प्रतिकूल

Options :

1. ✘ परा

2. ✓ प्रति

3. ✘ पर

4. ✘ प्र

Question Number : 162 Question Id : 54592747633 Question Type : MCQ Option Shuffling : Yes
Correct Marks : 1 Wrong Marks : 0.25

दिए गए शब्द में उपसर्ग ज्ञात कीजिए।

प्रतिकूल

Options :

1. ✘ परा

2. ✓ प्रति

3. ✘ पर

4. ✘ प्र

Question Number : 163 Question Id : 54592747634 Question Type : MCQ Option Shuffling : Yes
Correct Marks : 1 Wrong Marks : 0.25

दिए गए शब्द में उपसर्ग ज्ञात कीजिए।

बेईमान

Options :

1. * ब
2. ✓ बे
3. * बेई
4. * बेड़

Question Number : 163 Question Id : 54592747634 Question Type : MCQ Option Shuffling : Yes
Correct Marks : 1 Wrong Marks : 0.25

दिए गए शब्द में उपसर्ग ज्ञात कीजिए।

बेईमान

Options :

1. * ब
2. ✓ बे
3. * बेई
4. * बेड़

Question Number : 164 Question Id : 54592747635 Question Type : MCQ Option Shuffling : Yes
Correct Marks : 1 Wrong Marks : 0.25

निम्नलिखित में से कौन सा युग्म तद्भव - तत्सम का युग्म नहीं है?

Options :

1. * पूँछ - पुच्छ
2. * लाख - लक्ष
3. * पत्ता - पत्र
4. ✓ स्कूल - विद्यालय

Question Number : 164 Question Id : 54592747635 Question Type : MCQ Option Shuffling : Yes
Correct Marks : 1 Wrong Marks : 0.25

निम्नलिखित में से कौन सा युग्म तद्भव - तत्सम का युग्म नहीं है?

Options :

1. * पूँछ - पुच्छ
2. * लाख - लक्ष
3. * पत्ता - पत्र
4. ✓ स्कूल - विद्यालय

Question Number : 165 Question Id : 54592747636 Question Type : MCQ Option Shuffling : Yes

Correct Marks : 1 Wrong Marks : 0.25

निम्नलिखित में से कौन सा शब्द दशाबोधक विशेषण का उदाहरण है?

Options :

1. * मधुर
2. * मीठा
3. ✓ स्वस्थ
4. * वर्कश

Question Number : 165 Question Id : 54592747636 Question Type : MCQ Option Shuffling : Yes

Correct Marks : 1 Wrong Marks : 0.25

निम्नलिखित में से कौन सा शब्द दशाबोधक विशेषण का उदाहरण है?

Options :

1. * मधुर
2. * मीठा
3. ✓ स्वस्थ
4. * वर्कश

Question Number : 166 Question Id : 54592747637 Question Type : MCQ Option Shuffling : Yes

Correct Marks : 1 Wrong Marks : 0.25

दिए गए वाक्यांश के लिए उचित शब्द का चयन कीजिए।

स्वयं अपनी हत्या करना

Options :

1. ✓ आत्महत्या
2. ✘ स्वयंहत्या
3. ✘ स्वयवध
4. ✘ खुदमरण

Question Number : 166 Question Id : 54592747637 Question Type : MCQ Option Shuffling : Yes
Correct Marks : 1 Wrong Marks : 0.25

दिए गए वाक्यांश के लिए उचित शब्द का चयन कीजिए।

स्वयं अपनी हत्या करना

Options :

1. ✓ आत्महत्या
2. ✘ स्वयंहत्या
3. ✘ स्वयवध
4. ✘ खुदमरण

Question Number : 167 Question Id : 54592747638 Question Type : MCQ Option Shuffling : Yes
Correct Marks : 1 Wrong Marks : 0.25

दिए गए वाक्यांश के लिए उचित शब्द का चयन कीजिए।

जिसमें सहन - शक्ति हो

Options :

1. ✘ सहनीय
2. ✓ सहिष्णु
3. ✘ असहनीय
4. ✘ शक्तिशाली

Question Number : 167 Question Id : 54592747638 Question Type : MCQ Option Shuffling : Yes
Correct Marks : 1 Wrong Marks : 0.25

दिए गए वाक्यांश के लिए उचित शब्द का चयन कीजिए।

जिसमें सहन - शक्ति हो

Options :

1. ✖ सहनीय
2. ✔ सहिष्णु
3. ✖ असहनीय
4. ✖ शक्तिशाली

Question Number : 168 Question Id : 54592747639 Question Type : MCQ Option Shuffling : Yes
Correct Marks : 1 Wrong Marks : 0.25

दिए गए शब्द का विलोम शब्द ज्ञात कीजिए।

सक्रिय

Options :

1. ✔ निष्क्रिय
2. ✖ विक्रिय
3. ✖ निक्रिय
4. ✖ क्रिया

Question Number : 168 Question Id : 54592747639 Question Type : MCQ Option Shuffling : Yes
Correct Marks : 1 Wrong Marks : 0.25

दिए गए शब्द का विलोम शब्द ज्ञात कीजिए।

सक्रिय

Options :

1. ✔ निष्क्रिय
2. ✖ विक्रिय
3. ✖ निक्रिय

4. * क्रिया

Question Number : 169 Question Id : 54592747640 Question Type : MCQ Option Shuffling : Yes
Correct Marks : 1 Wrong Marks : 0.25

निम्नलिखित में से शुद्ध वर्तनी का चयन कीजिए।

Options :

1. * मधुकैटभंत्री
2. * मधुकैटभही
3. * मधुकैटभहंत्री
4. ✓ मधुकैटभहंत्री

Question Number : 169 Question Id : 54592747640 Question Type : MCQ Option Shuffling : Yes
Correct Marks : 1 Wrong Marks : 0.25

निम्नलिखित में से शुद्ध वर्तनी का चयन कीजिए।

Options :

1. * मधुकैटभंत्री
2. * मधुकैटभही
3. * मधुकैटभहंत्री
4. ✓ मधुकैटभहंत्री

Question Number : 170 Question Id : 54592747641 Question Type : MCQ Option Shuffling : Yes
Correct Marks : 1 Wrong Marks : 0.25

निम्नलिखित में से कौन सा शब्द युग्म पुनरुक्त शब्द युग्म है?

Options :

1. * कंद - मूल
2. * चीर - फाड़
3. * ओत - प्रोत
4. ✓ चटक - मटक

Question Number : 170 Question Id : 54592747641 Question Type : MCQ Option Shuffling : Yes
Correct Marks : 1 Wrong Marks : 0.25

निम्नलिखित में से कौन सा शब्द युग्म पुनरुक्त शब्द युग्म है?

Options :

1. ✖ कंद - मूल
2. ✖ चीर - फाड़
3. ✖ ओत - प्रोत
4. ✔ चटक - मटक

Question Number : 171 Question Id : 54592747642 Question Type : MCQ Option Shuffling : Yes
Correct Marks : 1 Wrong Marks : 0.25

दिए गए वाक्य में उपयुक्त शब्द का चयन करके रिक्त स्थान की पूर्ति कीजिए।

गरमी _____ लोगों का बुरा हाल था।

Options :

1. ✔ के मारे
2. ✖ से मारे
3. ✖ पर मारे
4. ✖ को मारे

Question Number : 171 Question Id : 54592747642 Question Type : MCQ Option Shuffling : Yes
Correct Marks : 1 Wrong Marks : 0.25

दिए गए वाक्य में उपयुक्त शब्द का चयन करके रिक्त स्थान की पूर्ति कीजिए।

गरमी _____ लोगों का बुरा हाल था।

Options :

1. ✔ के मारे
2. ✖ से मारे
3. ✖ पर मारे
4. ✖ को मारे

Question Number : 172 Question Id : 54592747643 Question Type : MCQ Option Shuffling : Yes
Correct Marks : 1 Wrong Marks : 0.25

दिए गए वाक्य में उपयुक्त शब्द का चयन करके रिक्त स्थान की पूर्ति कीजिए।

देशवासियों के बीच _____ का होना जरूरी है।

Options :

1. * भय
2. ✓ एकता
3. * आतंकवादी
4. * जादू

Question Number : 172 Question Id : 54592747643 Question Type : MCQ Option Shuffling : Yes

Correct Marks : 1 Wrong Marks : 0.25

दिए गए वाक्य में उपयुक्त शब्द का चयन करके रिक्त स्थान की पूर्ति कीजिए।

देशवासियों के बीच _____ का होना जरूरी है।

Options :

1. * भय
2. ✓ एकता
3. * आतंकवादी
4. * जादू

Question Number : 173 Question Id : 54592747644 Question Type : MCQ Option Shuffling : Yes

Correct Marks : 1 Wrong Marks : 0.25

दिए गए वाक्यांश के लिए उचित शब्द का चयन कीजिए।

एक ही माता पिता से जन्म लेने वाला

Options :

1. ✓ सहोदर
2. * अमातापिता
3. * बहन

4. * भाई

Question Number : 173 Question Id : 54592747644 Question Type : MCQ Option Shuffling : Yes
Correct Marks : 1 Wrong Marks : 0.25

दिए गए वाक्यांश के लिए उचित शब्द का चयन कीजिए।

एक ही माता पिता से जन्म लेने वाला

Options :

1. ✓ सहोदर
2. * अमातापिता
3. * बहन
4. * भाई

Question Number : 174 Question Id : 54592747645 Question Type : MCQ Option Shuffling : Yes
Correct Marks : 1 Wrong Marks : 0.25

दिए गए शब्द का विलोम शब्द ज्ञात कीजिए।

ईश्वरवादी

Options :

1. ✓ अनीश्वरवादी
2. * भूतवादी
3. * राक्षसवादी
4. * मौलिकवादी

Question Number : 174 Question Id : 54592747645 Question Type : MCQ Option Shuffling : Yes
Correct Marks : 1 Wrong Marks : 0.25

दिए गए शब्द का विलोम शब्द ज्ञात कीजिए।

ईश्वरवादी

Options :

1. ✓ अनीश्वरवादी

2. * भूतवादी
3. * राक्षसवादी
4. * मौलिकवादी

Question Number : 175 Question Id : 54592747646 Question Type : MCQ Option Shuffling : Yes
Correct Marks : 1 Wrong Marks : 0.25

दिए गए शब्द का समानार्थी शब्द ज्ञात कीजिए।

शोणित

Options :

1. ✓ रुधिर
2. * टोला
3. * क्रिया
4. * निष्ठुर

Question Number : 175 Question Id : 54592747646 Question Type : MCQ Option Shuffling : Yes
Correct Marks : 1 Wrong Marks : 0.25

दिए गए शब्द का समानार्थी शब्द ज्ञात कीजिए।

शोणित

Options :

1. ✓ रुधिर
2. * टोला
3. * क्रिया
4. * निष्ठुर

Question Number : 176 Question Id : 54592747647 Question Type : MCQ Option Shuffling : Yes
Correct Marks : 1 Wrong Marks : 0.25

दिए गए वाक्य में उचित परसर्ग का चयन करके रिक्त स्थान की पूर्ति कीजिए।

थोड़ी देर _____ गौरव एक डंडा लेकर आ पहुँचा।

Options :

1. * ने
2. * को
3. * पर
4. ✓ में

Question Number : 176 Question Id : 54592747647 Question Type : MCQ Option Shuffling : Yes

Correct Marks : 1 Wrong Marks : 0.25

दिए गए वाक्य में उचित परसर्ग का चयन करके रिक्त स्थान की पूर्ति कीजिए।

थोड़ी देर _____ गौरव एक डंडा लेकर आ पहुँचा।

Options :

1. * ने
2. * को
3. * पर
4. ✓ में

Question Number : 177 Question Id : 54592747648 Question Type : MCQ Option Shuffling : Yes

Correct Marks : 1 Wrong Marks : 0.25

दिए गए वाक्य में रेखांकित भाग का सही कारक ज्ञात कीजिए।

राघव ने खाना खाया।

Options :

1. * अपादान
2. ✓ कर्ता
3. * करण

4. * कर्म

Question Number : 177 Question Id : 54592747648 Question Type : MCQ Option Shuffling : Yes
Correct Marks : 1 Wrong Marks : 0.25

दिए गए वाक्य में रेखांकित भाग का सही कारक ज्ञात कीजिए।

राघव ने खाना खाया।

Options :

1. * अपादान
2. ✓ कर्ता
3. * करण
4. * कर्म

Question Number : 178 Question Id : 54592747649 Question Type : MCQ Option Shuffling : Yes
Correct Marks : 1 Wrong Marks : 0.25

दिए गए शब्द का लिंग ज्ञात कीजिए।

सिफ़ारिश

Options :

1. * पुल्लिंग
2. ✓ स्त्रीलिंग
3. * नपुंसकलिंग
4. * विधिलिंग

Question Number : 178 Question Id : 54592747649 Question Type : MCQ Option Shuffling : Yes
Correct Marks : 1 Wrong Marks : 0.25

दिए गए शब्द का लिंग ज्ञात कीजिए।

सिफ़ारिश

Options :

1. * पुल्लिंग

2. ✓ स्त्रीलिंग

3. ✘ नपुसकलिंग

4. ✘ विधिलिंग

Question Number : 179 Question Id : 54592747650 Question Type : MCQ Option Shuffling : Yes
Correct Marks : 1 Wrong Marks : 0.25

दिए गए शब्द का स्त्रीलिंग रूप ज्ञात कीजिए।

देव

Options :

1. ✘ देवा

2. ✘ देवानी

3. ✓ देवी

4. ✘ देवित्री

Question Number : 179 Question Id : 54592747650 Question Type : MCQ Option Shuffling : Yes
Correct Marks : 1 Wrong Marks : 0.25

दिए गए शब्द का स्त्रीलिंग रूप ज्ञात कीजिए।

देव

Options :

1. ✘ देवा

2. ✘ देवानी

3. ✓ देवी

4. ✘ देवित्री

Question Number : 180 Question Id : 54592747651 Question Type : MCQ Option Shuffling : Yes
Correct Marks : 1 Wrong Marks : 0.25

दिए गए शब्द का स्त्रीलिंग रूप ज्ञात कीजिए।

पापी

Options :

1. * दुस्चरित्रिणी
2. * पापिनी
3. * पापात्मा
4. ✓ पापिन

Question Number : 180 Question Id : 54592747651 Question Type : MCQ Option Shuffling : Yes
Correct Marks : 1 Wrong Marks : 0.25

दिए गए शब्द का स्त्रीलिंग रूप ज्ञात कीजिए।

पापी

Options :

1. * दुस्चरित्रिणी
2. * पापिनी
3. * पापात्मा
4. ✓ पापिन

General Hindi2

Group Number :	10
Group Id :	5459272360
Group Maximum Duration :	0
Group Minimum Duration :	120
Show Attended Group? :	No
Edit Attended Group? :	No
Break time:	0
Group Marks:	20
Is this Group for Examiner?:	No
Revisit allowed for group Instructions? :	Yes
Maximum Instruction Time:	0
Minimum Instruction Time:	0

General Hindi2

Section Id :	5459272360
Section Number :	1
Section type :	Online
Mandatory or Optional:	Mandatory
Number of Questions:	16
Number of Questions to be attempted:	16
Section Marks:	20

Sub-Section Number:	1
Sub-Section Id:	5459272831
Question Shuffling Allowed :	Yes

Question Number : 181 Question Id : 54592747652 Question Type : MCQ Option Shuffling : Yes
Correct Marks : 1 Wrong Marks : 0.25

दिए गए वाक्य का वह भाग ज्ञात करें जिसमें कोई त्रुटि है।

मैं ड्राइवर से (1)/ अपने बेटे को (2)/ कार चलाना (3)/ सीख रहा हूँ (4)

Options :

1. ✖ 1

2. ✖ 2

3. ✖ 3

4. ✔ 4

Question Number : 181 Question Id : 54592747652 Question Type : MCQ Option Shuffling : Yes
Correct Marks : 1 Wrong Marks : 0.25

दिए गए वाक्य का वह भाग ज्ञात करें जिसमें कोई त्रुटि है।

मैं ड्राइवर से (1)/ अपने बेटे को (2)/ कार चलाना (3)/ सीख रहा हूँ (4)

Options :

1. ✖ 1

2. ✖ 2

3. ✖ 3

4. ✔ 4

Question Number : 182 Question Id : 54592747653 Question Type : MCQ Option Shuffling : Yes

Correct Marks : 1 Wrong Marks : 0.25

निम्नलिखित में से कौन सा वाक्य सरल वाक्य नहीं है?

Options :

1. * वह अमेरिका जाकर नौकरी करेगा।
2. * गाड़ी रूकते ही कुली अंदर घुस गए।
3. ✓ परीक्षा समाप्त होगी तभी मैं बाल कटवाऊँगा।
4. * माता जी आ कर चली गईं।

Question Number : 182 Question Id : 54592747653 Question Type : MCQ Option Shuffling : Yes

Correct Marks : 1 Wrong Marks : 0.25

निम्नलिखित में से कौन सा वाक्य सरल वाक्य नहीं है?

Options :

1. * वह अमेरिका जाकर नौकरी करेगा।
2. * गाड़ी रूकते ही कुली अंदर घुस गए।
3. ✓ परीक्षा समाप्त होगी तभी मैं बाल कटवाऊँगा।
4. * माता जी आ कर चली गईं।

Question Number : 183 Question Id : 54592747654 Question Type : MCQ Option Shuffling : Yes

Correct Marks : 1 Wrong Marks : 0.25

दिए गए वाक्य में रेखांकित भाग का काल ज्ञात कीजिए।

ट्रेन जा चुकी थी।

Options :

1. ✓ पूर्ण भूतकाल
2. * सामान्य भूतकाल
3. * अपूर्ण भूतकाल
4. * आसन्न भूतकाल

Question Number : 183 Question Id : 54592747654 Question Type : MCQ Option Shuffling : Yes

Correct Marks : 1 Wrong Marks : 0.25

दिए गए वाक्य में रेखांकित भाग का काल ज्ञात कीजिए।

ट्रेन जा चुकी थी।

Options :

1. ✓ पूर्ण भूतकाल
2. ✗ सामान्य भूतकाल
3. ✗ अपूर्ण भूतकाल
4. ✗ आसन्न भूतकाल

Question Number : 184 Question Id : 54592747655 Question Type : MCQ Option Shuffling : Yes
Correct Marks : 1 Wrong Marks : 0.25

दिए गए वाक्य का पक्ष ज्ञात कीजिए।

अब मोहन खेलने लगा।

Options :

1. ✓ आरंभदयोतक पक्ष
2. ✗ सातप्यबोधक पक्ष
3. ✗ प्रगतिदयोतक पक्ष
4. ✗ पूर्णतादयोतक पक्ष

Question Number : 184 Question Id : 54592747655 Question Type : MCQ Option Shuffling : Yes
Correct Marks : 1 Wrong Marks : 0.25

दिए गए वाक्य का पक्ष ज्ञात कीजिए।

अब मोहन खेलने लगा।

Options :

1. ✓ आरंभदयोतक पक्ष
2. ✗ सातप्यबोधक पक्ष
3. ✗ प्रगतिदयोतक पक्ष

4. * पूर्णतादयोक्तक पक्ष

Question Number : 185 Question Id : 54592747656 Question Type : MCQ Option Shuffling : Yes
Correct Marks : 1 Wrong Marks : 0.25

दिए गए वाक्य की वृत्ति ज्ञात कीजिए।

उसे कल जाना है।

Options :

1. ✓ निश्चियार्थक
2. * संकेतार्थक
3. * सभांवनार्थक
4. * बाध्यता सूचक

Question Number : 185 Question Id : 54592747656 Question Type : MCQ Option Shuffling : Yes
Correct Marks : 1 Wrong Marks : 0.25

दिए गए वाक्य की वृत्ति ज्ञात कीजिए।

उसे कल जाना है।

Options :

1. ✓ निश्चियार्थक
2. * संकेतार्थक
3. * सभांवनार्थक
4. * बाध्यता सूचक

Question Number : 186 Question Id : 54592747657 Question Type : MCQ Option Shuffling : Yes
Correct Marks : 1 Wrong Marks : 0.25

दिए गए वाक्य में रेखांकित भाग किस प्रकार का पुरुष है ज्ञात कीजिए।

मोहन बहुत खाना खाता है।

Options :

1. * प्रथम

2. * मध्यम

3. * उत्तम

4. ✓ अन्य

Question Number : 186 Question Id : 54592747657 Question Type : MCQ Option Shuffling : Yes

Correct Marks : 1 Wrong Marks : 0.25

दिए गए वाक्य में रेखांकित भाग किस प्रकार का पुरुष है ज्ञात कीजिए।

मोहन बहुत खाना खाता है।

Options :

1. * प्रथम

2. * मध्यम

3. * उत्तम

4. ✓ अन्य

Question Number : 187 Question Id : 54592747658 Question Type : MCQ Option Shuffling : Yes

Correct Marks : 1 Wrong Marks : 0.25

निम्नलिखित में से कौन सा प्रथम पुरुष का उदाहरण नहीं है?

Options :

1. * मैं कल दिल्ली जाऊँगा।

2. * मेरा घर यहाँ से दूर है।

3. * हमने सारा काम खत्म कर लिया।

4. ✓ तुम कब दिल्ली जाओगे।

Question Number : 187 Question Id : 54592747658 Question Type : MCQ Option Shuffling : Yes

Correct Marks : 1 Wrong Marks : 0.25

निम्नलिखित में से कौन सा प्रथम पुरुष का उदाहरण नहीं है?

Options :

1. * मैं कल दिल्ली जाऊँगा।

2. * मेरा घर यहाँ से दूर है।

3. * हमने सारा काम खत्म कर लिया।

4. ✓ तुम कब दिल्ली जाओगे।

Question Number : 188 Question Id : 54592747659 Question Type : MCQ Option Shuffling : Yes

Correct Marks : 1 Wrong Marks : 0.25

निम्नलिखित प्रश्न में, दिए गए चार विकल्पों में से, उस विकल्प का चयन करें जो दिए गए मुहावरे के अर्थ को सर्वश्रेष्ठ रूप से व्यक्त करता है।

सीना छलनी होना

Options :

1. ✓ किसी बात का बुरा लग जाना।

2. * मूर्ख किंतु धनी।

3. * हर तरफ से संकट होना।

4. * दोहरा लाभ।

Question Number : 188 Question Id : 54592747659 Question Type : MCQ Option Shuffling : Yes

Correct Marks : 1 Wrong Marks : 0.25

निम्नलिखित प्रश्न में, दिए गए चार विकल्पों में से, उस विकल्प का चयन करें जो दिए गए मुहावरे के अर्थ को सर्वश्रेष्ठ रूप से व्यक्त करता है।

सीना छलनी होना

Options :

1. ✓ किसी बात का बुरा लग जाना।

2. * मूर्ख किंतु धनी।

3. * हर तरफ से संकट होना।

4. * दोहरा लाभ।

Question Number : 189 Question Id : 54592747660 Question Type : MCQ Option Shuffling : Yes

Correct Marks : 1 Wrong Marks : 0.25

निम्नलिखित प्रश्न में, दिए गए चार विकल्पों में से, उस विकल्प का चयन करें जो दिए गए मुहावरे के अर्थ को सर्वश्रेष्ठ रूप से व्यक्त करता है।

बंदर क्या जाने अदरक का स्वाद

Options :

1. * सुख के दिन सदा नहीं रहते।
2. ✓ मूर्ख व्यक्ति गुणों की परख नहीं कर सकते।
3. * झूठा व्यक्ति अपनी बात बदलता रहता है।
4. * परिणाम अच्छा होने पर सब अच्छा माना जाता है।

Question Number : 189 Question Id : 54592747660 Question Type : MCQ Option Shuffling : Yes

Correct Marks : 1 Wrong Marks : 0.25

निम्नलिखित प्रश्न में, दिए गए चार विकल्पों में से, उस विकल्प का चयन करें जो दिए गए मुहावरे के अर्थ को सर्वश्रेष्ठ रूप से व्यक्त करता है।

बंदर क्या जाने अदरक का स्वाद

Options :

1. * सुख के दिन सदा नहीं रहते।
2. ✓ मूर्ख व्यक्ति गुणों की परख नहीं कर सकते।
3. * झूठा व्यक्ति अपनी बात बदलता रहता है।
4. * परिणाम अच्छा होने पर सब अच्छा माना जाता है।

Question Number : 190 Question Id : 54592747661 Question Type : MCQ Option Shuffling : Yes

Correct Marks : 1 Wrong Marks : 0.25

निम्नलिखित प्रश्न में, दिए गए चार विकल्पों में से, उस विकल्प का चयन करें जो दिए गए मुहावरे के अर्थ को सर्वश्रेष्ठ रूप से व्यक्त करता है।

मीठी चुटकी लेना

Options :

1. * खाने के लिए चुटकी खरीदना।

2. ✓ हल्का व्यंग्य करना।
3. * बिना खर्च किए अच्छा परिणाम आना
4. * अपने अपने हिस्से का काम करना।

Question Number : 190 Question Id : 54592747661 Question Type : MCQ Option Shuffling : Yes
Correct Marks : 1 Wrong Marks : 0.25

निम्नलिखित प्रश्न में, दिए गए चार विकल्पों में से, उस विकल्प का चयन करें जो दिए गए मुहावरे के अर्थ को सर्वश्रेष्ठ रूप से व्यक्त करता है।

मीठी चुटकी लेना

Options :

1. * खाने के लिए चुटकी खरीदना।
2. ✓ हल्का व्यंग्य करना।
3. * बिना खर्च किए अच्छा परिणाम आना
4. * अपने अपने हिस्से का काम करना।

Question Number : 191 Question Id : 54592747662 Question Type : MCQ Option Shuffling : Yes
Correct Marks : 1 Wrong Marks : 0.25

दिए गए शब्दों के समूह के लिए सही मुहावरे का चयन कीजिए।

लड़ने के लिए उद्यत होना।

Options :

1. * काँटा दूर होना
2. * खून सूखना
3. * घी के दीये जलाना
4. ✓ तलवार खींचना

Question Number : 191 Question Id : 54592747662 Question Type : MCQ Option Shuffling : Yes
Correct Marks : 1 Wrong Marks : 0.25

दिए गए शब्दों के समूह के लिए सही मुहावरे का चयन कीजिए।

लड़ने के लिए उद्यत होना।

Options :

1. * काँटा दूर होना
2. * खून सूखना
3. * घी के दीये जलाना
4. ✓ तलवार खींचना

Question Number : 192 Question Id : 54592747663 Question Type : MCQ Option Shuffling : Yes
Correct Marks : 1 Wrong Marks : 0.25

दिए गए शब्दों के समूह के लिए सही मुहावरे का चयन कीजिए।

अपने मन के अनुकूल कार्य करवाना।

Options :

1. ✓ उँगलियों पर नचाना
2. * छोटा मुँह बड़ी बात
3. * जो गरजते हैं वो बरसते नहीं
4. * डूबते को तिनके का सहारा

Question Number : 192 Question Id : 54592747663 Question Type : MCQ Option Shuffling : Yes
Correct Marks : 1 Wrong Marks : 0.25

दिए गए शब्दों के समूह के लिए सही मुहावरे का चयन कीजिए।

अपने मन के अनुकूल कार्य करवाना।

Options :

1. ✓ उँगलियों पर नचाना
2. * छोटा मुँह बड़ी बात
3. * जो गरजते हैं वो बरसते नहीं

4. * डूबते को तिनके का सहारा

Question Number : 193 Question Id : 54592747664 Question Type : MCQ Option Shuffling : Yes

Correct Marks : 1 Wrong Marks : 0.25

दिए गए वाक्य के लिए सही लोकोक्ति का चयन करके रिक्त स्थान की पूर्ति कीजिए।

झूठ बोलते पकड़े जाने पर उस पर _____।

Options :

1. ✓ घड़ी पानी पड़ गया
2. * गागर में सागर भर गया
3. * गुड़ गोबर कर दिया
4. * कमर टूट गयी

Question Number : 193 Question Id : 54592747664 Question Type : MCQ Option Shuffling : Yes

Correct Marks : 1 Wrong Marks : 0.25

दिए गए वाक्य के लिए सही लोकोक्ति का चयन करके रिक्त स्थान की पूर्ति कीजिए।

झूठ बोलते पकड़े जाने पर उस पर _____।

Options :

1. ✓ घड़ी पानी पड़ गया
2. * गागर में सागर भर गया
3. * गुड़ गोबर कर दिया
4. * कमर टूट गयी

Question Number : 194 Question Id : 54592747665 Question Type : MCQ Option Shuffling : Yes

Correct Marks : 1 Wrong Marks : 0.25

दिए गए वाक्य में किस विराम चिह्न का उपयोग किया जाएगा ज्ञात कीजिए।

सुनो बात मेरी अनोखी हवा हूँ।

Options :

1. ✖ ‘ ’

2. ✖ ?

3. ✔ -

4. ✖ ,

Question Number : 194 Question Id : 54592747665 Question Type : MCQ Option Shuffling : Yes
Correct Marks : 1 Wrong Marks : 0.25

दिए गए वाक्य में किस विराम चिह्न का उपयोग किया जाएगा ज्ञात कीजिए।

सुनो बात मेरी अनोखी हवा हूँ।

Options :

1. ✖ ‘ ’

2. ✖ ?

3. ✔ -

4. ✖ ,

Question Number : 195 Question Id : 54592747666 Question Type : MCQ Option Shuffling : Yes
Correct Marks : 1 Wrong Marks : 0.25

दिए गए वाक्य में किस विराम चिह्न का उपयोग किया जाएगा ज्ञात कीजिए।

न तो तुम्हें पढ़ाई की चिंता है और न समय की ऐसे कैसे जीवन चलेगा?

Options :

1. ✔ ,

2. ✖ ;

3. ✖ |

4. ✖ -

Question Number : 195 Question Id : 54592747666 Question Type : MCQ Option Shuffling : Yes
Correct Marks : 1 Wrong Marks : 0.25

दिए गए वाक्य में किस विराम चिह्न का उपयोग किया जाएगा ज्ञात कीजिए।

न तो तुम्हें पढ़ाई की चिंता है और न समय की ऐसे कैसे जीवन चलेगा?

Options :

1. ✓ ,

2. * ;

3. * |

4. * -

Sub-Section Number:	2
Sub-Section Id:	5459272832
Question Shuffling Allowed :	Yes

Question Id : 54592747667 Question Type : COMPREHENSION Sub Question Shuffling Allowed : Yes Group Comprehension Questions : No

Question Numbers : (196 to 200)

Question Label : Comprehension

एक गद्यांश दिया गया है। गद्यांश के आधार पर पाँच प्रश्न दिए गए हैं। गद्यांश को ध्यानपूर्वक पढ़ें तथा प्रत्येक प्रश्न में चार विकल्पों में से सही विकल्प चुने।

पुस्तकालय वह स्थान है जहाँ पुस्तकें वर्गीकृत कर के क्रम में रखी जाती हैं। कुछ पुस्तकालय विद्यार्थियों द्वारा अध्यापकों के लाभ के लिए होते हैं। निजी पुस्तकालय व्यक्ति विशेष अपनी रुचि के अनुसार निर्मित करते हैं। कुछ सरकारी पुस्तकालय भी होते हैं, जिन्हें सरकार द्वारा चलाया जाता है। कुछ समाजसेवी संस्थाएँ भी अपने पुस्तकालय स्थापित करती हैं। कुछ भी हो सब का उद्देश्य प्रायः एक ही होता है पुस्तकों का संगठन तथा लोगों में ज्ञान का प्रसार करना। लोगों की सुविधा को ध्यान में रखते हुए चलते-फिरते पुस्तकालय भी मौजूद हैं। पुस्तकालय से लाभ ही लाभ है, अध्यापक जितना भी ज्ञान दे किंतु प्रतिभाशाली छात्रों की ज्ञान की पिपासा की शांति तो ढेर सारी पुस्तकों को पढ़ने से ही होती है, और इसका एकमात्र समाधान है, पुस्तकालय। व्यक्ति हर प्रकार की पुस्तक खरीद नहीं सकता और जो पुस्तकें दुर्लभ हैं, उन्हें पाने के लिए तो पुस्तकालय की शरण लेनी ही पड़ती है। हमारे यहाँ जितने पुस्तकालय होने चाहिए उतने हैं नहीं, शहरों में तो पुस्तकालय हैं, पर गाँव में इनका नितांत अभाव है। इसके महत्व को ध्यान में रखते हुए इस दिशा में कदम उठाए जाने चाहिए कि गाँव में भी पुस्तकालय बनाए जाएं।

Sub questions

Question Number : 196 Question Id : 54592747668 Question Type : MCQ Option Shuffling : Yes

Correct Marks : 1 Wrong Marks : 0.25

पुस्तकालय में पुस्तकें कैसे रखी जाती हैं?

Options :

1. * फैला कर
2. * इकट्ठी कर
3. ✓ वर्गीकृत कर
4. * पानी में

Question Number : 197 Question Id : 54592747669 Question Type : MCQ Option Shuffling : Yes

Correct Marks : 1 Wrong Marks : 0.25

छात्रों के ज्ञान की इच्छा कब पूरी होती है?

Options :

1. * पास होकर

2. * फेल होकर

3. ✓ ढेर सारी किताबें पढ़कर

4. * चुप रह कर

Question Number : 198 Question Id : 54592747670 Question Type : MCQ Option Shuffling : Yes
Correct Marks : 1 Wrong Marks : 0.25

सरकार को पुस्तकालय कहाँ बनाने चाहिए?

Options :

1. * शहरों में

2. ✓ गाँवों में

3. * बागों में

4. * बाजारों में

Question Number : 199 Question Id : 54592747671 Question Type : MCQ Option Shuffling : Yes
Correct Marks : 1 Wrong Marks : 0.25

उपर्युक्त गद्यांश का शीर्षक क्या है?

Options :

1. ✓ पुस्तकालय

2. * समाजिक पुस्तकालय

3. * शहरी पुस्तकालय

4. * चलते - फिरते पुस्तकालय

Question Number : 200 Question Id : 54592747672 Question Type : MCQ Option Shuffling : Yes
Correct Marks : 1 Wrong Marks : 0.25

पुस्तकालयों की शरण कब लेनी पड़ती है?

Options :

1. * पुस्तकें पाने के लिए

2. ✓ दुर्लभ पुस्तकें पाने के लिए

3. * कहानियाँ पढ़ने के लिए

4. * शांत रहने के लिए

Question Id : 54592747667 Question Type : COMPREHENSION Sub Question Shuffling Allowed : Yes Group Comprehension
Questions : No

Question Numbers : (196 to 200)

Question Label : Comprehension

एक गद्यांश दिया गया है। गद्यांश के आधार पर पाँच प्रश्न दिए गए हैं। गद्यांश को ध्यानपूर्वक पढ़ें तथा प्रत्येक प्रश्न में चार विकल्पों में से सही विकल्प चुने।

पुस्तकालय वह स्थान है जहाँ पुस्तकें वर्गीकृत कर के क्रम में रखी जाती हैं। कुछ पुस्तकालय विद्यार्थियों द्वारा अध्यापकों के लाभ के लिए होते हैं। निजी पुस्तकालय व्यक्ति विशेष अपनी रुचि के अनुसार निर्मित करते हैं। कुछ सरकारी पुस्तकालय भी होते हैं, जिन्हें सरकार द्वारा चलाया जाता है। कुछ समाजसेवी संस्थाएँ भी अपने पुस्तकालय स्थापित करती हैं। कुछ भी हो सब का उद्देश्य प्रायः एक ही होता है पुस्तकों का संगठन तथा लोगों में ज्ञान का प्रसार करना। लोगों की सुविधा को ध्यान में रखते हुए चलते-फिरते पुस्तकालय भी मौजूद हैं। पुस्तकालय से लाभ ही लाभ है, अध्यापक जितना भी ज्ञान दे किंतु प्रतिभाशाली छात्रों की ज्ञान की पिपासा की शांति तो ढेर सारी पुस्तकों को पढ़ने से ही होती है, और इसका एकमात्र समाधान है, पुस्तकालय। व्यक्ति हर प्रकार की पुस्तक खरीद नहीं सकता और जो पुस्तकें दुर्लभ हैं, उन्हें पाने के लिए तो पुस्तकालय की शरण लेनी ही पड़ती है। हमारे यहाँ जितने पुस्तकालय होने चाहिए उतने हैं नहीं, शहरों में तो पुस्तकालय हैं, पर गाँव में इनका नितांत अभाव है। इसके महत्व को ध्यान में रखते हुए इस दिशा में कदम उठाए जाने चाहिए कि गाँव में भी पुस्तकालय बनाए जाएं।

Sub questions

Question Number : 196 Question Id : 54592747668 Question Type : MCQ Option Shuffling : Yes

Correct Marks : 1 Wrong Marks : 0.25

पुस्तकालय में पुस्तकें कैसे रखी जाती हैं?

Options :

1. * फैला कर
2. * इकट्ठी कर
3. ✓ वर्गीकृत कर
4. * पानी में

Question Number : 197 Question Id : 54592747669 Question Type : MCQ Option Shuffling : Yes
Correct Marks : 1 Wrong Marks : 0.25

छात्रों के ज्ञान की इच्छा कब पूरी होती है?

Options :

1. * पास होकर
2. * फेल होकर
3. ✓ ढेर सारी किताबें पढ़कर
4. * चुप रह कर

Question Number : 198 Question Id : 54592747670 Question Type : MCQ Option Shuffling : Yes
Correct Marks : 1 Wrong Marks : 0.25

सरकार को पुस्तकालय कहाँ बनाने चाहिए?

Options :

1. * शहरों में
2. ✓ गाँवों में
3. * बागों में
4. * बाजारों में

Question Number : 199 Question Id : 54592747671 Question Type : MCQ Option Shuffling : Yes
Correct Marks : 1 Wrong Marks : 0.25

उपर्युक्त गद्यांश का शीर्षक क्या है?

Options :

1. ✓ पुस्तकालय
2. ✖ समाजिक पुस्तकालय
3. ✖ शहरी पुस्तकालय
4. ✖ चलते - फिरते पुस्तकालय

Question Number : 200 Question Id : 54592747672 Question Type : MCQ Option Shuffling : Yes
Correct Marks : 1 Wrong Marks : 0.25

पुस्तकालयों की शरण कब लेनी पड़ती है?

Options :

1. ✖ पुस्तकें पाने के लिए
2. ✓ दुर्लभ पुस्तकें पाने के लिए
3. ✖ कहानियाँ पढ़ने के लिए
4. ✖ शांत रहने के लिए