

Education Consultant India Ltd.

Notations :

1.Options shown in **green** color and with ✓ icon are correct.

2.Options shown in **red** color and with ✖ icon are incorrect.

Question Paper Name:	Grade IV DASS 30th September 2019 Shift 3
Subject Name:	Grade IV DASS
Creation Date:	2019-09-30 19:49:33
Duration:	120
Total Marks:	200
Display Marks:	Yes
Share Answer Key With Delivery Engine:	No
Actual Answer Key:	Yes
Calculator:	None
Magnifying Glass Required?:	No
Ruler Required?:	No
Eraser Required?:	No
Scratch Pad Required?:	No
Rough Sketch/Notepad Required?:	No
Protractor Required?:	No
Show Watermark on Console?:	Yes
Highlighter:	No
Auto Save on Console?:	No

Mental Ability1

Group Number :	1
Group Id :	5459272541
Group Maximum Duration :	0
Group Minimum Duration :	0
Show Attended Group? :	No
Edit Attended Group? :	No
Break time:	0
Group Marks:	20
Is this Group for Examiner?:	No
Revisit allowed for group Instructions? :	Yes
Maximum Instruction Time:	0
Minimum Instruction Time:	0

Mental Ability1

Section Id :	5459272541
Section Number :	1

Section type :	Online
Mandatory or Optional:	Mandatory
Number of Questions:	20
Number of Questions to be attempted:	20
Section Marks:	20

Sub-Section Number:	1
Sub-Section Id:	5459273049
Question Shuffling Allowed :	Yes

Question Number : 1 Question Id : 54592751309 Question Type : MCQ Option Shuffling : Yes
Correct Marks : 1 Wrong Marks : 0.25

A series is given with one term missing. Select the correct alternative from the given ones that will complete the series.

HL39, QX80, ZJ121, IV162 , ?

Options :

1. ✓ RH203
2. ✗ RE213
3. ✗ SF203
4. ✗ SE213

Question Number : 1 Question Id : 54592751309 Question Type : MCQ Option Shuffling : Yes
Correct Marks : 1 Wrong Marks : 0.25

एक अनुक्रम दिया गया है, जिसमें से एक पद लुप्त है। दिए गए विकल्पों में से वह सही विकल्प चुनिए, जो अनुक्रम को पूरा करे।

HL39, QX80, ZJ121, IV162 , ?

Options :

1. ✓ RH203
2. ✗ RE213
3. ✗ SF203
4. ✗ SE213

Question Number : 2 Question Id : 54592751310 Question Type : MCQ Option Shuffling : Yes

Correct Marks : 1 Wrong Marks : 0.25

A series is given with one term missing. Select the correct alternative from the given ones that will complete the series.

D11B, K13W, R17R, Y19M , ?

Options :

1. ✖ F29I

2. ✔ F23H

3. ✖ E23G

4. ✖ E29H

Question Number : 2 Question Id : 54592751310 Question Type : MCQ Option Shuffling : Yes

Correct Marks : 1 Wrong Marks : 0.25

एक अनुक्रम दिया गया है, जिसमें से एक पद लुप्त है। दिए गए विकल्पों में से वह सही विकल्प चुनिए, जो अनुक्रम को पूरा करे।

D11B, K13W, R17R, Y19M , ?

Options :

1. ✖ F29I

2. ✔ F23H

3. ✖ E23G

4. ✖ E29H

Question Number : 3 Question Id : 54592751311 Question Type : MCQ Option Shuffling : Yes

Correct Marks : 1 Wrong Marks : 0.25

A series is given with one term wrong. Select that wrong term from the given alternatives.

AR, DO, GL, JI, ME

Options :

1. ✖ GL
2. ✖ JI
3. ✔ ME
4. ✖ AR

Question Number : 3 Question Id : 54592751311 Question Type : MCQ Option Shuffling : Yes
Correct Marks : 1 Wrong Marks : 0.25

एक अनुक्रम दिया गया है, जिसमें से एक पद गलत है। दिए गए विकल्पों में से उस गलत पद को चुनिए।

AR, DO, GL, JI, ME

Options :

1. ✖ GL
2. ✖ JI
3. ✔ ME
4. ✖ AR

Question Number : 4 Question Id : 54592751312 Question Type : MCQ Option Shuffling : Yes
Correct Marks : 1 Wrong Marks : 0.25

In the following question, select the odd letters from the given alternatives.

Options :

1. ✔ UQSR
2. ✖ JFIH
3. ✖ OKNM
4. ✖ VRUT

Question Number : 4 Question Id : 54592751312 Question Type : MCQ Option Shuffling : Yes
Correct Marks : 1 Wrong Marks : 0.25

निम्नलिखित प्रश्न में दिए गए विकल्पों में से विषम अक्षरों को चुनिए।

Options :

1. ✓ UQSR
2. ✗ JFIH
3. ✗ OKNM
4. ✗ VRUT

Question Number : 5 Question Id : 54592751313 Question Type : MCQ Option Shuffling : Yes

Correct Marks : 1 Wrong Marks : 0.25

In the following question, select the odd letters from the given alternatives.

Options :

1. ✗ TWUZ
2. ✗ ORPU
3. ✓ EHFL
4. ✗ ILJO

Question Number : 5 Question Id : 54592751313 Question Type : MCQ Option Shuffling : Yes

Correct Marks : 1 Wrong Marks : 0.25

निम्नलिखित प्रश्न में दिए गए विकल्पों में से विषम अक्षरों को चुनिए।

Options :

1. ✗ TWUZ
2. ✗ ORPU
3. ✓ EHFL
4. ✗ ILJO

Question Number : 6 Question Id : 54592751314 Question Type : MCQ Option Shuffling : Yes

Correct Marks : 1 Wrong Marks : 0.25

In the following question, select the odd word pair from the given alternatives.

Options :

1. ✖ February - March
2. ✖ August - September
3. ✖ May - June
4. ✔ November - January

Question Number : 6 Question Id : 54592751314 Question Type : MCQ Option Shuffling : Yes

Correct Marks : 1 Wrong Marks : 0.25

निम्नलिखित प्रश्न में दिए गए विकल्पों में से विषम शब्द युग्म को चुनिए।

Options :

1. ✖ फरवरी - मार्च
2. ✖ अगस्त - सितम्बर
3. ✖ मई - जून
4. ✔ नवम्बर - जनवरी

Question Number : 7 Question Id : 54592751315 Question Type : MCQ Option Shuffling : Yes

Correct Marks : 1 Wrong Marks : 0.25

In the following question, select the related word pair from the given alternatives.

Metal : Ore :: ?

Options :

1. ✔ Paper : Wood
2. ✖ Clothes : White
3. ✖ Road : Flat
4. ✖ Egg : Omelette

Question Number : 7 Question Id : 54592751315 Question Type : MCQ Option Shuffling : Yes

Correct Marks : 1 Wrong Marks : 0.25

निम्नलिखित प्रश्न में दिए गए विकल्पों में से संबंधित शब्द युग्म को चुनिए।

धातु : अयस्क :: ?

Options :

1. ✓ कागज : लकड़ी
2. * वस्त्र : सफेद
3. * सड़क : समतल
4. * अण्डा : ऑमलेट

Question Number : 8 Question Id : 54592751316 Question Type : MCQ Option Shuffling : Yes
Correct Marks : 1 Wrong Marks : 0.25

In the following question, select the related word pair from the given alternatives.

Chapter : Book :: ?

Options :

1. * Pen : Nib
2. ✓ Arc : Circle
3. * Room : Car
4. * Cart : Wheel

Question Number : 8 Question Id : 54592751316 Question Type : MCQ Option Shuffling : Yes
Correct Marks : 1 Wrong Marks : 0.25

निम्नलिखित प्रश्न में दिए गए विकल्पों में से संबंधित शब्द युग्म को चुनिए।

अध्याय : पुस्तक :: ?

Options :

1. ✖ कलम : निब

2. ✔ चाप : वृत्त

3. ✖ कमरा : कार

4. ✖ कार्ट : पहिया

Question Number : 9 Question Id : 54592751317 Question Type : MCQ Option Shuffling : Yes
Correct Marks : 1 Wrong Marks : 0.25

In the following question, select the related letters from the given alternatives.

PRTU : RURR :: ABPR : ?

Options :

1. ✔ CENO

2. ✖ BFMP

3. ✖ CFNP

4. ✖ BEMO

Question Number : 9 Question Id : 54592751317 Question Type : MCQ Option Shuffling : Yes
Correct Marks : 1 Wrong Marks : 0.25

निम्नलिखित प्रश्न में दिए गए विकल्पों में से संबंधित अक्षरों को चुनिए।

PRTU : RURR :: ABPR : ?

Options :

1. ✔ CENO

2. ✖ BFMP

3. ✖ CFNP

4. ✖ BEMO

Question Number : 10 Question Id : 54592751318 Question Type : MCQ Option Shuffling : Yes
Correct Marks : 1 Wrong Marks : 0.25

In a certain code language, 'PHONE' is called as 'CHAIR', 'CHAIR' is called as 'TABLE', 'TABLE' is called as 'RIVER', 'RIVER' is called as 'WATER', 'WATER' is called as 'PLASTIC'. Where do we sit?

Options :

1. * Phone
2. * Chair
3. ✓ Table
4. * Water

Question Number : 10 Question Id : 54592751318 Question Type : MCQ Option Shuffling : Yes

Correct Marks : 1 Wrong Marks : 0.25

एक विशिष्ट कोड भाषा में, 'फोन' को 'कुर्सी' कहा जाता है, 'कुर्सी' को 'मेज' कहा जाता है, 'मेज' को 'नदी' कहा जाता है, 'नदी' को 'जल' कहा जाता है, 'जल' को 'प्लास्टिक' कहा जाता है। हम कहाँ बैठते हैं?

Options :

1. * फोन
2. * कुर्सी
3. ✓ मेज
4. * पानी

Question Number : 11 Question Id : 54592751319 Question Type : MCQ Option Shuffling : Yes

Correct Marks : 1 Wrong Marks : 0.25

In a certain code language, 'PAPER' is called as 'WOOD', 'WOOD' is called as 'BOOK', 'BOOK' is called as 'SALARY', 'SALARY' is called as 'RED', 'RED' is called as 'TABEL'. What do we receive as a income?

Options :

1. * Salary
2. * Table

3. ✓ Red

4. ✖ Book

Question Number : 11 Question Id : 54592751319 Question Type : MCQ Option Shuffling : Yes

Correct Marks : 1 Wrong Marks : 0.25

एक विशिष्ट कोड भाषा में, 'कागज' को 'लकड़ी' कहा जाता है, 'लकड़ी' को 'किताब' कहा जाता है, 'किताब' को 'वेतन' कहा जाता है, 'वेतन' को 'लाल' कहा जाता है, 'लाल' को 'मेज' कहा जाता है। हमें आय के रूप में क्या प्राप्त होता है?

Options :

1. ✖ वेतन

2. ✖ मेज

3. ✓ लाल

4. ✖ किताब

Question Number : 12 Question Id : 54592751320 Question Type : MCQ Option Shuffling : Yes

Correct Marks : 1 Wrong Marks : 0.25

In a certain code language, 'Raj is student' is written as 'lk ta mp', 'Student are hard' is written as 'rp mp tr', 'Hard are Raj' is written as 'tr lk rp'. What is the code for 'are' in that code language?

Options :

1. ✖ mp

2. ✖ lk

3. ✖ tr

4. ✓ tr or rp

Question Number : 12 Question Id : 54592751320 Question Type : MCQ Option Shuffling : Yes

Correct Marks : 1 Wrong Marks : 0.25

एक विशिष्ट कोड भाषा में, 'Raj is student' को 'lk ta mp' लिखा जाता है, 'Student are hard' को 'rp mp tr' लिखा जाता है, 'Hard are Raj' को 'tr lk rp' लिखा जाता है। इस कोड भाषा में 'are' का कोड क्या है?

Options :

1. ✖ mp
2. ✖ lk
3. ✖ tr
4. ✔ tr तथा rp

Question Number : 13 Question Id : 54592751321 Question Type : MCQ Option Shuffling : Yes

Correct Marks : 1 Wrong Marks : 0.25

A, B, C and D are 4 students. A, B and C likes cricket. B, C and D likes hockey. C, D and A likes badminton. B and D likes swimming. Who like the least number of sports?

Options :

1. ✔ A
2. ✖ B
3. ✖ A or C
4. ✖ C or D

Question Number : 13 Question Id : 54592751321 Question Type : MCQ Option Shuffling : Yes

Correct Marks : 1 Wrong Marks : 0.25

A, B, C तथा D 4 छात्र हैं। A, B तथा C को क्रिकेट पसंद है। B, C तथा D को हॉकी पसंद है। C, D तथा A को बैडमिंटन पसंद है। B तथा D को तैराकी पसंद है। सबसे कम खेल किसे पसंद हैं?

Options :

1. ✔ A
2. ✖ B

3. * A अथवा C

4. * C अथवा D

Question Number : 14 Question Id : 54592751322 Question Type : MCQ Option Shuffling : Yes

Correct Marks : 1 Wrong Marks : 0.25

P1, P2, P3, P4, P5, P6 and P7 are 7 different pens. 2 pens are red, 3 are green and 2 are black. P2, P4 and P7 are not green coloured pens. P5 and P6 are not red coloured pens. P3 is a green coloured pen. P1 is a black coloured pen. P2, P6 and P7 are not black coloured pens. Which two pens are of black colour?

Options :

1. * P2, P4

2. ✓ P1, P4

3. * P1, P5

4. * P1, P3

Question Number : 14 Question Id : 54592751322 Question Type : MCQ Option Shuffling : Yes

Correct Marks : 1 Wrong Marks : 0.25

P1, P2, P3, P4, P5, P6 तथा P7, 7 विभिन्न पेन हैं। 2 पेन लाल हैं, 3 हरे हैं तथा 2 काले हैं। P2, P4 तथा P7 हरे रंग के पेन नहीं हैं। P5 तथा P6 लाल रंग के पेन नहीं हैं। P3 एक हरे रंग का पेन है। P1 एक काले रंग का पेन है। P2, P6 तथा P7 काले रंग के पेन नहीं हैं। कौन से दो पेन काले रंग के हैं?

Options :

1. * P2, P4

2. ✓ P1, P4

3. * P1, P5

4. * P1, P3

Question Number : 15 Question Id : 54592751323 Question Type : MCQ Option Shuffling : Yes

Correct Marks : 1 Wrong Marks : 0.25

P1, P2, P3, P4, P5, P6 and P7 likes seven different music M1, M2, M3, M4, M5, M6 and M7 (not necessarily in the same order). Each music is liked by exactly one person. P2 likes M6. P5 doesn't like M3 or M5. P6 likes M2. P1 likes M4. P3 likes M3. Which of the following statement is correct?

Options :

1. ✖ P4 likes M6
2. ✔ P5 may like M7
3. ✖ P7 may like M4
4. ✖ P4 likes M7

Question Number : 15 Question Id : 54592751323 Question Type : MCQ Option Shuffling : Yes

Correct Marks : 1 Wrong Marks : 0.25

P1, P2, P3, P4, P5, P6 तथा P7 को सात विभिन्न संगीत M1, M2, M3, M4, M5, M6 तथा M7 (जरूरी नहीं की इसी क्रम में हो) पसंद है। प्रत्येक संगीत केवल एक व्यक्ति द्वारा पसंद किया जाता है। P2 को M6 पसंद है। P5, M3 या M5 पसंद नहीं करता है। P6 को M2 पसंद है। P1 को M4 पसंद है। P3 को M3 पसंद है। निम्नलिखित में से कौन सा कथन सही है?

Options :

1. ✖ P4 को M6 पसंद है
2. ✔ P5, M7 को पसंद कर सकता है
3. ✖ P7, M4 को पसंद कर सकता है
4. ✖ P4 को M7 पसंद है

Question Number : 16 Question Id : 54592751324 Question Type : MCQ Option Shuffling : Yes

Correct Marks : 1 Wrong Marks : 0.25

5 persons F1, F2, F3, F4 and F5 are driving five different cars C1, C2, C3, C4 and C5 (not necessarily in the same order). They wear one of the five different type of clothes P1, P2, P3, P4 and P5. None of them wear same type of clothes. Person with C5 car is wearing P4. F2 is driving C1. F1 is driving C2. F5 is wearing P5 and is not driving C3. F1 doesn't wear P3. F3 is wearing P2. Who is driving C3?

Options :

1. ✖ F1
2. ✖ F2
3. ✔ F3
4. ✖ F4

Question Number : 16 Question Id : 54592751324 Question Type : MCQ Option Shuffling : Yes
Correct Marks : 1 Wrong Marks : 0.25

5 व्यक्ति F1, F2, F3, F4 तथा F5 पाँच विभिन्न कार C1, C2, C3, C4 तथा C5 (जरूरी नहीं की इसी क्रम में हो) को चला रहे हैं। वे विभिन्न प्रकार के कपड़ों P1, P2, P3, P4 तथा P5 में से किसी एक को पहनते हैं। उनमें से कोई भी समान प्रकार का कपड़ा नहीं पहनता है।

C5 कार वाले व्यक्ति ने P4 पहना है। F2, C1 चला रहा है। F1, C2 चला रहा है। F5 ने P5 पहना है तथा C3 नहीं चला रहा है। F1, P3 नहीं पहनता है। F3 ने P2 पहना है। C3 को कौन चला रहा है?

Options :

1. ✖ F1
2. ✖ F2
3. ✔ F3
4. ✖ F4

Question Number : 17 Question Id : 54592751325 Question Type : MCQ Option Shuffling : Yes

Correct Marks : 1 Wrong Marks : 0.25

5 persons P1, P2, P3, P4 and P5 are playing one of the five different games G1, G2, G3, G4 and G5. They drink 5 different types of soups S1, S2, S3, S4 and S5. Each person drink only one type of soup. P2 and P3 do not play G1, G2 or G3. P4 drink S5. P1 and P5 do not drink S1 or S2. P4 does not play G2. P5 plays G1. P3 does not play G4 and does not drink S2. P5 does not drink S3. Which of the following combination of Person - Game - Soups is correct?

Options :

1. * P1 - G3 - S5
2. ✓ P1 - G2 - S3
3. * P5 - G1 - S2
4. * P2 - G4 - S3

Question Number : 17 Question Id : 54592751325 Question Type : MCQ Option Shuffling : Yes

Correct Marks : 1 Wrong Marks : 0.25

5 व्यक्ति P1, P2, P3, P4 तथा P5 पांच विभिन्न खेलो G1, G2, G3, G4 तथा G5 में से एक खेल खेल रहे हैं। वे 5 विभिन्न प्रकार के सूप S1, S2, S3, S4 तथा S5 पीते हैं। प्रत्येक व्यक्ति केवल एक प्रकार का सूप पीता है। P2 तथा P3, G1, G2 या G3 नहीं खेलते हैं। P4, S5 पीता है। P1 तथा P5, S1 या S2 नहीं पीते हैं। P4, G2 नहीं खेलता है। P5, G1 खेलता है। P3, G4 नहीं खेलता है तथा S2 नहीं पीता है। P5, S3 नहीं पीता है। निम्नलिखित में से व्यक्ति - खेल - सूप का कौन - सा संगठन सही है?

Options :

1. * P1 - G3 - S5
2. ✓ P1 - G2 - S3

3. ✖ P5 - G1 - S2

4. ✖ P2 - G4 - S3

Question Number : 18 Question Id : 54592751326 Question Type : MCQ Option Shuffling : Yes

Correct Marks : 1 Wrong Marks : 0.25

In the following question below are given some statements followed by some conclusions based on those statements. Taking the given statements to be true even if they seem to be at variance from commonly known facts. Read all the conclusions and then decide which of the given conclusion logically follows the given statements.

Statements:

I. No red is blue.

II. Some blue are green.

Conclusions:

I. Some red are green.

II. Some green are red.

III. Some green are not red.

Options :

1. ✖ Only conclusion II follows

2. ✔ Only conclusion III follow

3. ✖ Only conclusion I follows

4. ✖ Neither conclusion follow

Question Number : 18 Question Id : 54592751326 Question Type : MCQ Option Shuffling : Yes

Correct Marks : 1 Wrong Marks : 0.25

नीचे दिए गए प्रश्न में कुछ कथन और उनके बाद उन कथनों पर आधारित कुछ निष्कर्ष दिए गए हैं। दिए गए कथनों को सही माने, चाहे उनमें सामान्य ज्ञात तथ्यों से भिन्नता हो। सभी निष्कर्ष पढ़ें और फिर निर्धारित करें कि दिए गए कौन से निष्कर्ष, दिए गए कथनों के आधार पर युक्तिसंगत हैं।

कथन:

- I. कोई लाल, नीला नहीं है।
- II. कुछ नीला, हरा है।

निष्कर्ष:

- I. कुछ लाल, हरे हैं।
- II. कुछ हरे, लाल हैं।
- III. कुछ हरे, लाल नहीं हैं।

Options :

1. * केवल निष्कर्ष II अनुसरण करता है
2. ✓ केवल निष्कर्ष III अनुसरण करता है
3. * केवल निष्कर्ष I अनुसरण करता है
4. * कोई भी निष्कर्ष अनुसरण नहीं करता है

Question Number : 19 Question Id : 54592751327 Question Type : MCQ Option Shuffling : Yes
Correct Marks : 1 Wrong Marks : 0.25

In the following question below are given some statements followed by some conclusions based on those statements. Taking the given statements to be true even if they seem to be at variance from commonly known facts. Read all the conclusions and then decide which of the given conclusion logically follows the given statements.

Statements:

- I. Some Z are X.
- II. Some X are Y.

Conclusions:

- I. Some Z are Y.
- II. Some Y are Z.
- III. No Y is Z.

Options :

- 1. ✖ Only conclusion I follows
- 2. ✖ Only conclusion II follows
- 3. ✖ Only conclusion III follows
- 4. ✔ None of the conclusions follows

Question Number : 19 Question Id : 54592751327 Question Type : MCQ Option Shuffling : Yes
Correct Marks : 1 Wrong Marks : 0.25

नीचे दिए गए प्रश्न में कुछ कथन और उनके बाद उन कथनों पर आधारित कुछ निष्कर्ष दिए गए हैं। दिए गए कथनों को सही माने, चाहे उनमें सामान्य ज्ञात तथ्यों से भिन्नता हो। सभी निष्कर्ष पढ़ें और फिर निर्धारित करें कि दिए गए कौन से निष्कर्ष, दिए गए कथनों के आधार पर युक्तिसंगत हैं।

कथन:

- I. कुछ Z, X हैं।
- II. कुछ X, Y हैं।

निष्कर्ष:

- I. कुछ Z, Y हैं।
- II. कुछ Y, Z हैं।
- III. कोई Y, Z नहीं है।

Options :

1. * केवल निष्कर्ष I अनुसरण करता है
2. * केवल निष्कर्ष II अनुसरण करता है
3. * केवल निष्कर्ष III अनुसरण करता है
4. ✓ कोई भी निष्कर्ष अनुसरण नहीं करता है

Question Number : 20 Question Id : 54592751328 Question Type : MCQ Option Shuffling : Yes

Correct Marks : 1 Wrong Marks : 0.25

A series is given with one term wrong. Select that wrong term from the given alternatives.

4, 9, 20, 43, 90, 186

Options :

1. ✓ 186

2. ✗ 9

3. ✗ 20

4. ✗ 90

Question Number : 20 Question Id : 54592751328 Question Type : MCQ Option Shuffling : Yes
Correct Marks : 1 Wrong Marks : 0.25

एक अनुक्रम दिया गया है, जिसमें से एक पद गलत है। दिए गए विकल्पों में से उस गलत पद को चुनिए।

4, 9, 20, 43, 90, 186

Options :

1. ✓ 186

2. ✗ 9

3. ✗ 20

4. ✗ 90

Mental Ability2

Group Number :	2
Group Id :	5459272542
Group Maximum Duration :	0
Group Minimum Duration :	0
Show Attended Group? :	No
Edit Attended Group? :	No
Break time:	0
Group Marks:	20
Is this Group for Examiner? :	No
Revisit allowed for group Instructions? :	Yes
Maximum Instruction Time:	0
Minimum Instruction Time:	0

Mental Ability2

Section Id :

5459272542

Section Number :	1
Section type :	Online
Mandatory or Optional:	Mandatory
Number of Questions:	20
Number of Questions to be attempted:	20
Section Marks:	20

Sub-Section Number:	1
Sub-Section Id:	5459273050
Question Shuffling Allowed :	Yes

Question Number : 21 Question Id : 54592751329 Question Type : MCQ Option Shuffling : Yes
Correct Marks : 1 Wrong Marks : 0.25

A series is given with one term wrong. Select that wrong term from the given alternatives.

8, 28, 78, 244, 728, 2188

Options :

1. ✖ 28

2. ✖ 728

3. ✔ 78

4. ✖ 2188

Question Number : 21 Question Id : 54592751329 Question Type : MCQ Option Shuffling : Yes
Correct Marks : 1 Wrong Marks : 0.25

एक अनुक्रम दिया गया है, जिसमें से एक पद गलत है। दिए गए विकल्पों में से उस गलत पद को चुनिए।

8, 28, 78, 244, 728, 2188

Options :

1. ✖ 28

2. ✖ 728

3. ✔ 78

4. ✖ 2188

Question Number : 22 Question Id : 54592751330 Question Type : MCQ Option Shuffling : Yes
Correct Marks : 1 Wrong Marks : 0.25

In the following question, select the related number from the given alternatives.

61 : 183 :: 53 : ?

Options :

1. ✖ 139

2. ✖ 149

3. ✖ 169

4. ✔ 159

Question Number : 22 Question Id : 54592751330 Question Type : MCQ Option Shuffling : Yes
Correct Marks : 1 Wrong Marks : 0.25

निम्नलिखित प्रश्न में दिए गए विकल्पों में से संबंधित संख्या को चुनिए।

61 : 183 :: 53 : ?

Options :

1. ✖ 139

2. ✖ 149

3. ✖ 169

4. ✔ 159

Question Number : 23 Question Id : 54592751331 Question Type : MCQ Option Shuffling : Yes
Correct Marks : 1 Wrong Marks : 0.25

In the following question, select the related number from the given alternatives.

23 : 529 :: 31 : ?

Options :

1. ✖ 1069

2. ✔ 961

3. ✖ 841

4. ✖ 529

Question Number : 23 Question Id : 54592751331 Question Type : MCQ Option Shuffling : Yes

Correct Marks : 1 Wrong Marks : 0.25

निम्नलिखित प्रश्न में दिए गए विकल्पों में से संबंधित संख्या को चुनिए।

23 : 529 :: 31 : ?

Options :

1. ✖ 1069

2. ✔ 961

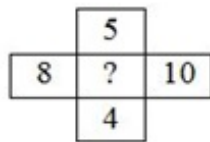
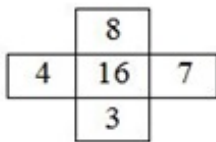
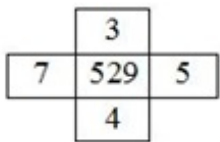
3. ✖ 841

4. ✖ 529

Question Number : 24 Question Id : 54592751332 Question Type : MCQ Option Shuffling : Yes

Correct Marks : 1 Wrong Marks : 0.25

In the following question, select the number which can be placed at the sign of question mark (?) from the given alternatives.



Options :

1. ✖ 4900

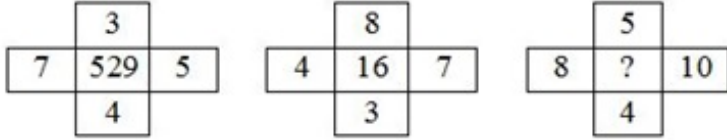
2. ✔ 3600

3. ✖ 6400

4. ✖ 5000

Question Number : 24 Question Id : 54592751332 Question Type : MCQ Option Shuffling : Yes
Correct Marks : 1 Wrong Marks : 0.25

निम्नलिखित प्रश्न में दिए गए विकल्पों में से प्रश्न चिन्ह (?) के स्थान पर आने वाली संख्या को चुनिए।



Options :

1. ✖ 4900
2. ✔ 3600
3. ✖ 6400
4. ✖ 5000

Question Number : 25 Question Id : 54592751333 Question Type : MCQ Option Shuffling : Yes
Correct Marks : 1 Wrong Marks : 0.25

By interchanging which two numbers the equation will be correct?

$$3 \div 6 + 5 - 8 = -1$$

Options :

1. ✖ 5 and 8
2. ✖ 8 and 3
3. ✖ 6 and 5
4. ✔ 6 and 3

Question Number : 25 Question Id : 54592751333 Question Type : MCQ Option Shuffling : Yes
Correct Marks : 1 Wrong Marks : 0.25

किन दो संख्याओं को आपस में परस्पर बदलने पर समीकरण सही हो जाएगा?

$$3 \div 6 + 5 - 8 = -1$$

Options :

1. * 5 तथा 8
2. * 8 तथा 3
3. * 6 तथा 5
4. ✓ 6 तथा 3

Question Number : 26 Question Id : 54592751334 Question Type : MCQ Option Shuffling : Yes
Correct Marks : 1 Wrong Marks : 0.25

After interchanging which two signs and two numbers, the value of the given equation will be '7'?

$$1 + 9 - 6 \times 2 \div 5$$

Options :

1. * \div and $-$, 6 and 9
2. * $+$ and \times , 9 and 6
3. * 1 and 5, \div and $+$
4. ✓ 1 and 5, \div and $-$

Question Number : 26 Question Id : 54592751334 Question Type : MCQ Option Shuffling : Yes
Correct Marks : 1 Wrong Marks : 0.25

किन दो चिहनों तथा दो संख्याओं को आपस में परस्पर बदलने के पश्चात, दिये गए समीकरण का मान '7' होगा?

$$1 + 9 - 6 \times 2 \div 5$$

Options :

1. * ÷ तथा -, 6 तथा 9

2. * + तथा ×, 9 तथा 6

3. * 1 तथा 5, ÷ तथा +

4. ✓ 1 तथा 5, ÷ तथा -

Question Number : 27 Question Id : 54592751335 Question Type : MCQ Option Shuffling : Yes
Correct Marks : 1 Wrong Marks : 0.25

By interchanging the given two signs which of the following equation will not be correct?

÷ and +

Options :

1. * $7 + 3 \times 9 \div 11 - 6 = 26$

2. * $8 \div 4 - 16 + 17 \times 34 = -20$

3. * $5 \div 9 \times 4 + 3 - 6 = 11$

4. ✓ $6 \div 9 - 11 \times 33 + 3 = -105$

Question Number : 27 Question Id : 54592751335 Question Type : MCQ Option Shuffling : Yes
Correct Marks : 1 Wrong Marks : 0.25

दिए गए दो चिह्नों को आपस में परस्पर बदलने पर निम्नलिखित में से कौन सा समीकरण सही नहीं होगा?

÷ तथा +

Options :

1. * $7 + 3 \times 9 \div 11 - 6 = 26$

2. * $8 \div 4 - 16 + 17 \times 34 = -20$

3. * $5 \div 9 \times 4 + 3 - 6 = 11$

4. ✓ $6 \div 9 - 11 \times 33 + 3 = -105$

Question Number : 28 Question Id : 54592751336 Question Type : MCQ Option Shuffling : Yes
Correct Marks : 1 Wrong Marks : 0.25

If 'A' means ' \div ', 'B' means ' \times ', then which of the following equation is incorrect?

Options :

1. ✓ $72A12B3 < 6$
2. ✗ $15A3B2 > 6$
3. ✗ $6A2B3 < 10$
4. ✗ $16A4B2 > 4$

Question Number : 28 Question Id : 54592751336 Question Type : MCQ Option Shuffling : Yes
Correct Marks : 1 Wrong Marks : 0.25

यदि 'A' का अर्थ ' \div ', 'B' का अर्थ ' \times ', तो निम्नलिखित में से कौन सा समीकरण सही नहीं है?

Options :

1. ✓ $72A12B3 < 6$
2. ✗ $15A3B2 > 6$
3. ✗ $6A2B3 < 10$
4. ✗ $16A4B2 > 4$

Question Number : 29 Question Id : 54592751337 Question Type : MCQ Option Shuffling : Yes
Correct Marks : 1 Wrong Marks : 0.25

If $28 P 4 Q 2 = 14$ and $35 P 7 Q 6 = 30$, then $40 P 4 Q 8 = ?$

Options :

1. ✓ 80
2. ✗ 60
3. ✗ 44
4. ✗ 54

Question Number : 29 Question Id : 54592751337 Question Type : MCQ Option Shuffling : Yes
Correct Marks : 1 Wrong Marks : 0.25

यदि $28 P 4 Q 2 = 14$ तथा $35 P 7 Q 6 = 30$ हो, तो $40 P 4 Q 8 = ?$

Options :

1. ✓ 80

2. ✗ 60

3. ✗ 44

4. ✗ 54

Question Number : 30 Question Id : 54592751338 Question Type : MCQ Option Shuffling : Yes
Correct Marks : 1 Wrong Marks : 0.25

If $3142 = 24$ and $2186 = 42$, then $9517 = ?$

Options :

1. ✗ 92

2. ✗ 86

3. ✗ 132

4. ✓ 112

Question Number : 30 Question Id : 54592751338 Question Type : MCQ Option Shuffling : Yes
Correct Marks : 1 Wrong Marks : 0.25

यदि $3142 = 24$ तथा $2186 = 42$ हो, तो $9517 = ?$

Options :

1. ✗ 92

2. ✗ 86

3. ✗ 132

4. ✓ 112

Question Number : 31 Question Id : 54592751339 Question Type : MCQ Option Shuffling : Yes
Correct Marks : 1 Wrong Marks : 0.25

Identify the diagram that best represents the relationship among the given classes.

State, Country, Earth

Options :



Question Number : 31 Question Id : 54592751339 Question Type : MCQ Option Shuffling : Yes

Correct Marks : 1 Wrong Marks : 0.25

वह आरेख चुनिए जो नीचे दिए गए वर्गों के बीच के संबंध का सही निरूपण करता है।

राज्य, देश, पृथ्वी

Options :





Question Number : 32 Question Id : 54592751340 Question Type : MCQ Option Shuffling : Yes

Correct Marks : 1 Wrong Marks : 0.25

Identify the diagram that best represents the relationship among the given classes.

Elephant, Whale, Mammal

Options :



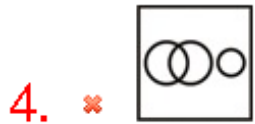
Question Number : 32 Question Id : 54592751340 Question Type : MCQ Option Shuffling : Yes

Correct Marks : 1 Wrong Marks : 0.25

वह आरेख चुनिए जो नीचे दिए गए वर्गों के बीच के संबंध का सही निरूपण करता है।

हाथी, व्हेल, स्तनपायी

Options :



Question Number : 33 Question Id : 54592751341 Question Type : MCQ Option Shuffling : Yes

Correct Marks : 1 Wrong Marks : 0.25

After walking 4 kms, Mohan turned right and covered a distance of 3 km, then turned left and covered a distance of 8 km. In the end, He was moving towards the North. In which direction is his final point from initial point?

Options :

1. ✗ South

2. ✗ West

3. ✗ North-West

4. ✓ North-East

Question Number : 33 Question Id : 54592751341 Question Type : MCQ Option Shuffling : Yes
Correct Marks : 1 Wrong Marks : 0.25

4 कि.मी. चलने के बाद मोहन दायीं ओर मुड़ा और 3 कि.मी. चला। इसके बाद वह बायीं ओर मुड़ा और 8 कि.मी. चला। अन्त में वह उत्तर की ओर जा रहा था। उसका अंतिम बिंदु आरंभिक बिंदु से किस दिशा में है?

Options :

1. ✗ दक्षिण
2. ✗ पश्चिम
3. ✗ उत्तर-पश्चिम
4. ✓ उत्तर-पूर्व

Question Number : 34 Question Id : 54592751342 Question Type : MCQ Option Shuffling : Yes
Correct Marks : 1 Wrong Marks : 0.25

While facing East, Mohit turns to his left and walks 6 meters. He then turns left and walks 6 meters. Now he turns 45° towards his right and goes straight to cover 24 meters. In which direction is he from his starting point?

Options :

1. ✓ North-West
2. ✗ North
3. ✗ West
4. ✗ North-East

Question Number : 34 Question Id : 54592751342 Question Type : MCQ Option Shuffling : Yes
Correct Marks : 1 Wrong Marks : 0.25

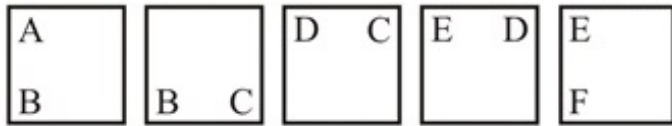
पूर्व की ओर मुख करते हुए मोहित अपने बायीं ओर मुड़कर 6 मीटर चलता है। इसके बाद वह बायीं ओर मुड़ता है तथा 6 मीटर चलता है। अब वह अपने दायीं ओर 45° मुड़ता है और सीधे 24 मीटर की दूरी तय करता है। वह अपने आरम्भिक बिन्दु से किस दिशा में है?

Options :

1. ✓ उत्तर-पश्चिम
2. ✗ उत्तर
3. ✗ पश्चिम
4. ✗ उत्तर-पूर्व

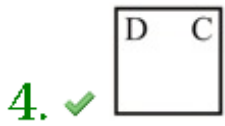
Question Number : 35 Question Id : 54592751343 Question Type : MCQ Option Shuffling : Yes
Correct Marks : 1 Wrong Marks : 0.25

In the following question, select the wrong figure from the given series.



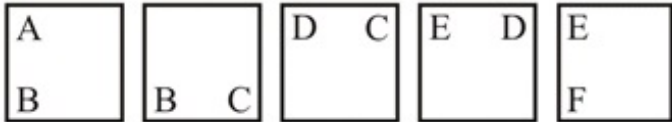
Options :





Question Number : 35 Question Id : 54592751343 Question Type : MCQ Option Shuffling : Yes
 Correct Marks : 1 Wrong Marks : 0.25

निम्नलिखित प्रश्न में, दी गयी श्रृंखला में से गलत आकृति को चुनिए।

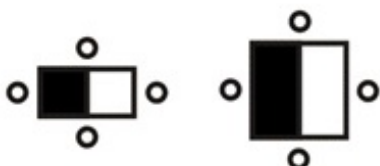


Options :



Question Number : 36 Question Id : 54592751344 Question Type : MCQ Option Shuffling : Yes
 Correct Marks : 1 Wrong Marks : 0.25

Which figure is similar to the given figures?

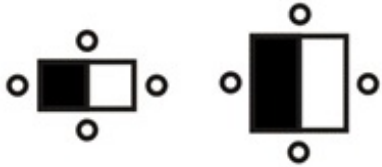


Options :



Question Number : 36 Question Id : 54592751344 Question Type : MCQ Option Shuffling : Yes
Correct Marks : 1 Wrong Marks : 0.25

कौन सी आकृति दी गई आकृतियों के समान है?



Options :



4. ✖



Question Number : 37 Question Id : 54592751345 Question Type : MCQ Option Shuffling : Yes
Correct Marks : 1 Wrong Marks : 0.25

Three positions of a dice are given below.



Which of the following statement is NOT correct about the given cube?

- I. 7 and 8 will be adjacent to each other.
- II. 3 and 9 are on opposite faces.
- III. 1 and 8 are on opposite faces.

Options :

- 1. ✖ only II
- 2. ✖ II and III
- 3. ✓ I and III
- 4. ✖ only III

Question Number : 37 Question Id : 54592751345 Question Type : MCQ Option Shuffling : Yes
Correct Marks : 1 Wrong Marks : 0.25

नीचे एक पासे की तीन अवस्थाएँ दी गयी हैं।



दिए गए घन के बारे में कौन सा कथन सही नहीं है?

- I. 7 तथा 8 एक दूसरे के संलग्न हैं।
- II. 3 तथा 9 विपरीत फलकों पर हैं।
- III. 1 तथा 8 विपरीत फलकों पर हैं।

Options :

1. ✖ केवल II
2. ✖ II तथा III
3. ✔ I तथा III
4. ✖ केवल III

Question Number : 38 Question Id : 54592751346 Question Type : MCQ Option Shuffling : Yes
Correct Marks : 1 Wrong Marks : 0.25

From the given answer figures, select the one in which the question figure is hidden/embedded.



Options :

1. ✖



Question Number : 38 Question Id : 54592751346 Question Type : MCQ Option Shuffling : Yes
Correct Marks : 1 Wrong Marks : 0.25

दी गई उत्तर आकृतियों में से उस उत्तर आकृति को चुनिए जिस में प्रश्न आकृति निहित है।



Options :



4. ✖



Question Number : 39 Question Id : 54592751347 Question Type : MCQ Option Shuffling : Yes

Correct Marks : 1 Wrong Marks : 0.25

From the given answer figures, select the one in which the question figure is hidden/embedded.



Options :

1. ✖



2. ✔



3. ✖



4. ✖



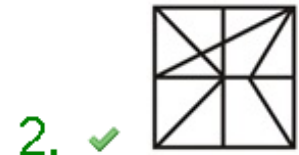
Question Number : 39 Question Id : 54592751347 Question Type : MCQ Option Shuffling : Yes

Correct Marks : 1 Wrong Marks : 0.25

दी गई उत्तर आकृतियों में से उस उत्तर आकृति को चुनिए जिस में प्रश्न आकृति निहित है।



Options :



Question Number : 40 Question Id : 54592751348 Question Type : MCQ Option Shuffling : Yes
Correct Marks : 1 Wrong Marks : 0.25

If a mirror is placed on the line AB, then which of the answer figures is the right image of the given figure?



Options :



Question Number : 40 Question Id : 54592751348 Question Type : MCQ Option Shuffling : Yes Correct Marks : 1 Wrong Marks : 0.25

यदि एक दर्पण को AB रेखा पर रखा जाए, तो दी गई उत्तर आकृतियों में से कौन सी आकृति प्रश्न आकृति का सही प्रतिबिंब होगी?



Options :



1. ✘



2. ✘



3. ✔



4. ✘

General Awareness1

Group Number :	3
Group Id :	5459272543
Group Maximum Duration :	0
Group Minimum Duration :	0
Show Attended Group? :	No
Edit Attended Group? :	No
Break time:	0

Group Marks:	20
Is this Group for Examiner?:	No
Revisit allowed for group Instructions? :	Yes
Maximum Instruction Time:	0
Minimum Instruction Time:	0

General Awareness1

Section Id :	5459272543
Section Number :	1
Section type :	Online
Mandatory or Optional:	Mandatory
Number of Questions:	20
Number of Questions to be attempted:	20
Section Marks:	20

Sub-Section Number:	1
Sub-Section Id:	5459273051
Question Shuffling Allowed :	Yes

Question Number : 41 Question Id : 54592751349 Question Type : MCQ Option Shuffling : Yes
Correct Marks : 1 Wrong Marks : 0.25

Jahaj Mahal is situated in which state?

Options :

1. ✓ Madhya Pradesh
2. ✘ Uttar Pradesh
3. ✘ Rajasthan
4. ✘ Maharashtra

Question Number : 41 Question Id : 54592751349 Question Type : MCQ Option Shuffling : Yes
Correct Marks : 1 Wrong Marks : 0.25

जाहाज महल कौन से राज्य में स्थित है?

Options :

1. ✓ मध्य प्रदेश
2. ✘ उत्तर प्रदेश
3. ✘ राजस्थान
4. ✘ महाराष्ट्र

Question Number : 42 Question Id : 54592751350 Question Type : MCQ Option Shuffling : Yes

Correct Marks : 1 Wrong Marks : 0.25

Which of the following instrument is NOT used in 'Bhavai' dance?

- I. Flute
- II. Bhungal
- III. Sitar
- IV. Tabla

Options :

- 1. ✖ Only I
- 2. ✔ Only III
- 3. ✖ Both I and IV
- 4. ✖ Only IV

Question Number : 42 Question Id : 54592751350 Question Type : MCQ Option Shuffling : Yes

Correct Marks : 1 Wrong Marks : 0.25

'भवाई' नृत्य में निम्नलिखित में से किस वाद्य यंत्र का उपयोग नहीं किया जाता है?

- I. बांसुरी
- II. भुंगल
- III. सितार
- IV. तबला

Options :

- 1. ✖ केवल I
- 2. ✔ केवल III
- 3. ✖ I तथा IV दोनों

4. * केवल IV

Question Number : 43 Question Id : 54592751351 Question Type : MCQ Option Shuffling : Yes
Correct Marks : 1 Wrong Marks : 0.25

_____ is the famous colourful mask-dance of Kerala.

Options :

1. ✓ Kummattikali
2. * Bagurumba
3. * Oppana
4. * Garba

Question Number : 43 Question Id : 54592751351 Question Type : MCQ Option Shuffling : Yes
Correct Marks : 1 Wrong Marks : 0.25

_____ केरल का प्रसिद्ध रंगीन मुखौटा-नृत्य है।

Options :

1. ✓ कुमट्टीकली
2. * बागुरुम्बा
3. * ओप्पना
4. * गरबा

Question Number : 44 Question Id : 54592751352 Question Type : MCQ Option Shuffling : Yes
Correct Marks : 1 Wrong Marks : 0.25

Which of the following is known as 'Taj Mahal of South India'?

Options :

1. * Charminar
2. * Manora
3. ✓ Bibi ka Maqbara
4. * Gol Gumbaz

Question Number : 44 Question Id : 54592751352 Question Type : MCQ Option Shuffling : Yes
Correct Marks : 1 Wrong Marks : 0.25

निम्नलिखित में से किसे 'दक्षिण भारत का ताजमहल' भी कहा जाता है?

Options :

1. ✖ चार मीनार
2. ✖ मनोरा
3. ✔ बीबी का मक़बरा
4. ✖ गोल गुंबज़

Question Number : 45 Question Id : 54592751353 Question Type : MCQ Option Shuffling : Yes

Correct Marks : 1 Wrong Marks : 0.25

Who determines the policy interest rate required to achieve inflation target?

Options :

1. ✖ Cabinet Committee on Security
2. ✖ Cabinet Committee on Economic Affairs
3. ✔ Monetary Policy Committee
4. ✖ NITI Aayog

Question Number : 45 Question Id : 54592751353 Question Type : MCQ Option Shuffling : Yes

Correct Marks : 1 Wrong Marks : 0.25

मुद्रास्फीति लक्ष्य को प्राप्त करने के लिए आवश्यक नीतिगत ब्याज दर का निर्धारण कौन करता है?

Options :

1. ✖ सुरक्षा मामलों की मंत्रिमंडलीय समिति
2. ✖ आर्थिक मामलों की मंत्रिमंडलीय समिति
3. ✔ मौद्रिक नीति समिति
4. ✖ नीति आयोग

Question Number : 46 Question Id : 54592751354 Question Type : MCQ Option Shuffling : Yes

Correct Marks : 1 Wrong Marks : 0.25

An Economy having both private sector and the Government is known as _____.

Options :

1. * Open Economy
2. * Centrally Planned Economy
3. * Closed Economy
4. ✓ Mixed Economy

Question Number : 46 Question Id : 54592751354 Question Type : MCQ Option Shuffling : Yes
Correct Marks : 1 Wrong Marks : 0.25

एक अर्थव्यवस्था जिसमें निजी क्षेत्र और सरकार दोनों हैं, को _____ के नाम से जाना जाता है।

Options :

1. * खुली अर्थव्यवस्था
2. * केंद्र नियोजित अर्थव्यवस्था
3. * बंद अर्थव्यवस्था
4. ✓ मिश्रित अर्थव्यवस्था

Question Number : 47 Question Id : 54592751355 Question Type : MCQ Option Shuffling : Yes
Correct Marks : 1 Wrong Marks : 0.25

Agriculture Marketing is a _____.

Options :

1. * Union Subject
2. ✓ State Subject
3. * Concurrent Subject
4. * Subject decided by President

Question Number : 47 Question Id : 54592751355 Question Type : MCQ Option Shuffling : Yes
Correct Marks : 1 Wrong Marks : 0.25

कृषि विपणन एक _____ है।

Options :

1. * केन्द्रीय विषय
2. ✓ राजकीय विषय

3. * समवर्ती विषय

4. * राष्ट्रपति द्वारा निर्धारित विषय

Question Number : 48 Question Id : 54592751356 Question Type : MCQ Option Shuffling : Yes

Correct Marks : 1 Wrong Marks : 0.25

Choose thermoplastic among the following.

Options :

1. * Melamine

2. ✓ Polyvinyl Chloride (PVC)

3. * Bakelite

4. * Polyester resin

Question Number : 48 Question Id : 54592751356 Question Type : MCQ Option Shuffling : Yes

Correct Marks : 1 Wrong Marks : 0.25

निम्नलिखित में से ताप सुघट्य चुनें।

Options :

1. * मेलामिन

2. ✓ पॉलीविनाइल क्लोराइड

3. * बेकेलाइट

4. * पॉलिएस्टर रेजिन

Question Number : 49 Question Id : 54592751357 Question Type : MCQ Option Shuffling : Yes

Correct Marks : 1 Wrong Marks : 0.25

An object A has a speed of 8 km/s and another object B has a speed of 8 metre/second. Which object covers more distance in 1 hour?

Options :

1. ✓ A

2. * B

3. * Both cover equal distance

4. * There is no relation between there distances

Question Number : 49 Question Id : 54592751357 Question Type : MCQ Option Shuffling : Yes

Correct Marks : 1 Wrong Marks : 0.25

एक वस्तु A की गति 8 कि.मी./सेकंड है तथा दूसरी वस्तु B की गति 8 मीटर/सेकंड है। कौन सी वस्तु एक घंटे में ज्यादा दूरी तय करती है?

Options :

1. ✓ A
2. ✗ B
3. ✗ दोनों समान दूरी तय करते हैं
4. ✗ उनकी दूरियों के बीच कोई संबंध नहीं है

Question Number : 50 Question Id : 54592751358 Question Type : MCQ Option Shuffling : Yes

Correct Marks : 1 Wrong Marks : 0.25

Which of the following mammals lay eggs?

Options :

1. ✗ Cat
2. ✓ Platypus
3. ✗ Bat
4. ✗ Rat

Question Number : 50 Question Id : 54592751358 Question Type : MCQ Option Shuffling : Yes

Correct Marks : 1 Wrong Marks : 0.25

निम्नलिखित स्तनपायियों में से कौन अंडे देता है?

Options :

1. ✗ बिल्ली
2. ✓ प्लैटिपस
3. ✗ चमगादड़
4. ✗ चूहा

Question Number : 51 Question Id : 54592751359 Question Type : MCQ Option Shuffling : Yes

Correct Marks : 1 Wrong Marks : 0.25

Which of the following elements is liquid at room temperature?

Options :

1. ✖ Gold
2. ✔ Bromine
3. ✖ Gallium
4. ✖ Cesium

Question Number : 51 Question Id : 54592751359 Question Type : MCQ Option Shuffling : Yes

Correct Marks : 1 Wrong Marks : 0.25

निम्नलिखित में से कौन सा तत्व कमरे के तापमान पर द्रव होता है?

Options :

1. ✖ सोना
2. ✔ ब्रोमीन
3. ✖ गैलियम
4. ✖ सीज़ियम

Question Number : 52 Question Id : 54592751360 Question Type : MCQ Option Shuffling : Yes

Correct Marks : 1 Wrong Marks : 0.25

Which of the following disease - mode of transmission pair is incorrect?

Options :

1. ✖ Female Anopheles Mosquito – Malaria
2. ✔ Female Aedes Mosquito – Kala-azar
3. ✖ Water – Hepatitis-A
4. ✖ Air – Measles

Question Number : 52 Question Id : 54592751360 Question Type : MCQ Option Shuffling : Yes

Correct Marks : 1 Wrong Marks : 0.25

निम्नलिखित में से कौन सा रोग - संचरण के तरीके का युग्म गलत है?

Options :

1. ✖ मादा एनाॅफ्लीज़ मच्छर - मलेरिया
2. ✔ मादा एडीस मच्छर - काला-ज्वर
3. ✖ जल - हैपेटाइटिस-ए
4. ✖ वायु - खसरा

Question Number : 53 Question Id : 54592751361 Question Type : MCQ Option Shuffling : Yes
Correct Marks : 1 Wrong Marks : 0.25

Which of the following is not an allotrope of carbon?

Options :

1. ✖ Graphite
2. ✖ Diamond
3. ✖ Fullerenes
4. ✔ Carbon fibre

Question Number : 53 Question Id : 54592751361 Question Type : MCQ Option Shuffling : Yes
Correct Marks : 1 Wrong Marks : 0.25

निम्नलिखित में से क्या कार्बन का एक अपररूप नहीं है?

Options :

1. ✖ ग्रेफाइट
2. ✖ हीरा
3. ✖ फुलेरिन
4. ✔ कार्बन रेशा

Question Number : 54 Question Id : 54592751362 Question Type : MCQ Option Shuffling : Yes
Correct Marks : 1 Wrong Marks : 0.25

A washing machine is connected to a voltage supply of 110V. The current in the circuit is 2A. How much power is consumed by the washing machine?

Options :

1. ✖ 110 W

2. ✖ 55 W

3. ✔ 220 W

4. ✖ 440 W

Question Number : 54 Question Id : 54592751362 Question Type : MCQ Option Shuffling : Yes
Correct Marks : 1 Wrong Marks : 0.25

एक वॉशिंग मशीन 110V की वोल्टेज आपूर्ति से संयोजित है। परिपथ में विद्युत् धारा 2A है। वाशिंग मशीन द्वारा उपभुक्त शक्ति कितनी है?

Options :

1. ✖ 110 W

2. ✖ 55 W

3. ✔ 220 W

4. ✖ 440 W

Question Number : 55 Question Id : 54592751363 Question Type : MCQ Option Shuffling : Yes
Correct Marks : 1 Wrong Marks : 0.25

Which of the following mineral Ore is extracted using calcination process?

Options :

1. ✖ Sulphide Ore

2. ✖ Nitrite Ore

3. ✖ Oxide Ore

4. ✔ Carbonate Ore

Question Number : 55 Question Id : 54592751363 Question Type : MCQ Option Shuffling : Yes
Correct Marks : 1 Wrong Marks : 0.25

निम्नलिखित में से किस खनिज अयस्क को निस्तापन प्रक्रिया का उपयोग करके निकाला जाता है?

Options :

1. ✖ सल्फाइड अयस्क

2. ✖ नाइट्राइट अयस्क

3. ✖ ऑक्साइड अयस्क

4. ✔ कार्बोनेट अयस्क

Question Number : 56 Question Id : 54592751364 Question Type : MCQ Option Shuffling : Yes

Correct Marks : 1 Wrong Marks : 0.25

Which of the following is NOT a method of irrigation?

Options :

1. ✖ Canal irrigation

2. ✖ Wells

3. ✖ Tube wells

4. ✔ Broadcasting

Question Number : 56 Question Id : 54592751364 Question Type : MCQ Option Shuffling : Yes

Correct Marks : 1 Wrong Marks : 0.25

निम्नलिखित में से कौन सा सिंचाई की एक विधि नहीं है?

Options :

1. ✖ नहर सिंचाई

2. ✖ कुएँ

3. ✖ ट्यूबवेल

4. ✔ प्रसारण

Question Number : 57 Question Id : 54592751365 Question Type : MCQ Option Shuffling : Yes

Correct Marks : 1 Wrong Marks : 0.25

A _____ is a narrow passage of water connecting two large water bodies like seas and oceans.

Options :

1. ✖ Isthmus

2. ✔ Strait

3. ✖ Canal

4. * Sea Cave

Question Number : 57 Question Id : 54592751365 Question Type : MCQ Option Shuffling : Yes
Correct Marks : 1 Wrong Marks : 0.25

_____ समुद्रों और महासागरों जैसे दो बड़े जल निकायों को जोड़ने वाला पानी का एक संकीर्ण मार्ग है।

Options :

1. * स्थलडमरूमध्य
2. ✓ जलडमरूमध्य
3. * नहर
4. * समुद्री गुफा

Question Number : 58 Question Id : 54592751366 Question Type : MCQ Option Shuffling : Yes
Correct Marks : 1 Wrong Marks : 0.25

When the sun, the moon and the earth are in a straight line, the height of the tide will be higher. Such tides are called _____ tides.

Options :

1. * Neap
2. ✓ Spring
3. * Autumn
4. * Soaring

Question Number : 58 Question Id : 54592751366 Question Type : MCQ Option Shuffling : Yes
Correct Marks : 1 Wrong Marks : 0.25

जब सूर्य, चंद्रमा और पृथ्वी एक सीधी रेखा में होते हैं, तो ज्वार की ऊंचाई अधिक होती है। ऐसे ज्वार को _____ ज्वार कहा जाता है।

Options :

1. * लघु
2. ✓ बृहत्

3. * शरद

4. * विडयन

Question Number : 59 Question Id : 54592751367 Question Type : MCQ Option Shuffling : Yes

Correct Marks : 1 Wrong Marks : 0.25

Which of the following primary force(s) affect(s) Ocean Currents?

I - Wind

II - Clouds

III - Coriolis Force

Options :

1. * Only II

2. * I and II

3. * I , II and III

4. ✓ I and III

Question Number : 59 Question Id : 54592751367 Question Type : MCQ Option Shuffling : Yes

Correct Marks : 1 Wrong Marks : 0.25

निम्नलिखित में से कौन सा/से प्राथमिक बल महासागरीय धाराओं को प्रभावित करता/ करते है/हैं?

I - पवन

II - बादल

III - कॉरिऑलिस बल

Options :

1. * केवल II

2. * I और II

3. * I, II, और III

4. ✓ | और III

Question Number : 60 Question Id : 54592751368 Question Type : MCQ Option Shuffling : Yes
Correct Marks : 1 Wrong Marks : 0.25

Which of the following factor(s) affect(s) salinity of Oceans?

I - Evaporation

II - Influx of fresh water by rivers

III - Ocean currents

Options :

1. * I only

2. * II and III

3. ✓ I, II, and III

4. * Only III

Question Number : 60 Question Id : 54592751368 Question Type : MCQ Option Shuffling : Yes
Correct Marks : 1 Wrong Marks : 0.25

निम्नलिखित में से कौन सा कारक महासागरों के लवणता को प्रभावित करता है?

I - वाष्पीकरण

II - नदियों द्वारा मीठे पानी का अंतर्वाह

III - महासागरीय धाराएँ

Options :

1. * केवल I

2. * II और III

3. ✓ I, II, और III

4. * केवल III

General Awareness2

Group Number :	4
Group Id :	5459272544
Group Maximum Duration :	0
Group Minimum Duration :	0
Show Attended Group? :	No
Edit Attended Group? :	No
Break time:	0
Group Marks:	20
Is this Group for Examiner?:	No
Revisit allowed for group Instructions? :	Yes
Maximum Instruction Time:	0
Minimum Instruction Time:	0

General Awareness2

Section Id :	5459272544
Section Number :	1
Section type :	Online
Mandatory or Optional:	Mandatory
Number of Questions:	20
Number of Questions to be attempted:	20
Section Marks:	20

Sub-Section Number:	1
Sub-Section Id:	5459273052
Question Shuffling Allowed :	Yes

Question Number : 61 Question Id : 54592751369 Question Type : MCQ Option Shuffling : Yes
Correct Marks : 1 Wrong Marks : 0.25

‘Swaraj’ and ‘Shaheed Dweep’ are part of which islands?

Options :

1. ✓ Andaman and Nicobar
2. ✗ Lakshadweep
3. ✗ Barren Islands
4. ✗ Sagar Island

Question Number : 61 Question Id : 54592751369 Question Type : MCQ Option Shuffling : Yes
Correct Marks : 1 Wrong Marks : 0.25

‘स्वराज’ और ‘शहीद द्वीप’ किस द्वीप के भाग हैं?

Options :

1. ✓ अंडमान और निकोबार

2. ✘ लक्षद्वीप

3. ✘ बैरन द्वीप

4. ✘ सागर द्वीप

Question Number : 62 Question Id : 54592751370 Question Type : MCQ Option Shuffling : Yes
Correct Marks : 1 Wrong Marks : 0.25

Lucknow Pact was signed between Indian National Congress (INC) and _____.

Options :

1. ✓ Muslim League

2. ✘ British Government

3. ✘ East India Association

4. ✘ Home Rule League

Question Number : 62 Question Id : 54592751370 Question Type : MCQ Option Shuffling : Yes
Correct Marks : 1 Wrong Marks : 0.25

लखनऊ पैक्ट भारतीय राष्ट्रीय कांग्रेस और _____ के बीच हस्ताक्षरित किया गया था।

Options :

1. ✓ मुस्लिम लीग

2. ✘ ब्रिटिश सरकार

3. ✘ ईस्ट इंडिया एसोसिएशन

4. ✘ होम रूल लीग

Question Number : 63 Question Id : 54592751371 Question Type : MCQ Option Shuffling : Yes
Correct Marks : 1 Wrong Marks : 0.25

Who among the following were the leaders of Khilafat Movement?

Options :

1. * Mahatma Gandhi and Muhammad Ali Jinnah
2. * Badruddin Tyabji and Muhammad Ali Jinnah
3. ✓ Muhammad Ali Jauhar and Shaukat Ali
4. * Bal Gangadhar Tilak and G.K. Gokhale

Question Number : 63 Question Id : 54592751371 Question Type : MCQ Option Shuffling : Yes
Correct Marks : 1 Wrong Marks : 0.25

निम्नलिखित में से खिलाफत आंदोलन के नेता कौन थे?

Options :

1. * महात्मा गांधी और मुहम्मद अली जिन्ना
2. * बदरुद्दीन तैयबजी और मुहम्मद अली जिन्ना
3. ✓ मोहम्मद अली जोहर और शौकत अली
4. * बाल गंगाधर तिलक और जी.के. गोखले

Question Number : 64 Question Id : 54592751372 Question Type : MCQ Option Shuffling : Yes
Correct Marks : 1 Wrong Marks : 0.25

The 'Nataraja' Bronze sculpture belongs to _____ dynasty.

Options :

1. * Pallava
2. ✓ Chola
3. * Maurya
4. * Gupta

Question Number : 64 Question Id : 54592751372 Question Type : MCQ Option Shuffling : Yes
Correct Marks : 1 Wrong Marks : 0.25

नटराज कांस्य मूर्तिकला _____ वंश से संबंधित है।

Options :

1. * पल्लव
2. ✓ चोल
3. * मौर्य

4. * गुप्त

Question Number : 65 Question Id : 54592751373 Question Type : MCQ Option Shuffling : Yes
Correct Marks : 1 Wrong Marks : 0.25

Which of the following was a consequence of Revolt of 1857?

Options :

1. * Queen Victoria was made the Governor-General of India
2. ✓ The administration of India was transferred from East India Company to the British Crown
3. * The administration of India was transferred to Indian officials
4. * Queen Victoria was given the power to select the rulers of India

Question Number : 65 Question Id : 54592751373 Question Type : MCQ Option Shuffling : Yes
Correct Marks : 1 Wrong Marks : 0.25

निम्नलिखित में से क्या 1857 के विद्रोह का परिणाम था?

Options :

1. * रानी विक्टोरिया को भारत का गवर्नर-जनरल बनाया गया था
2. ✓ भारत का प्रशासन ईस्ट इंडिया कंपनी से ब्रिटिश ताज को स्थानांतरित कर दिया गया था
3. * भारत का प्रशासन भारतीय अधिकारियों को हस्तांतरित कर दिया गया था
4. * रानी विक्टोरिया को भारत के शासकों का चयन करने की शक्ति दी गई थी

Question Number : 66 Question Id : 54592751374 Question Type : MCQ Option Shuffling : Yes
Correct Marks : 1 Wrong Marks : 0.25

Which three empires were involved in the 'Tripartite Struggle' for Kannauj?

Options :

1. ✓ Rashtrakutas ,Palas and Pratiharas

2. * Palas ,Pratiharas and Cholas

3. * Cholas, Cheras and Rashtrakutas

4. * Cholas, Chalukyas and Cheras

Question Number : 66 Question Id : 54592751374 Question Type : MCQ Option Shuffling : Yes

Correct Marks : 1 Wrong Marks : 0.25

कन्नौज के लिए 'त्रिपक्षीय संघर्ष' में कौन से तीन साम्राज्य शामिल थे?

Options :

1. ✓ राष्ट्रकूट, पाल और प्रतिहार

2. * पाल, प्रतिहार और चोल

3. * चोल, चेर और राष्ट्रकूट

4. * चोल, चालुक्य और चेर

Question Number : 67 Question Id : 54592751375 Question Type : MCQ Option Shuffling : Yes

Correct Marks : 1 Wrong Marks : 0.25

_____ is a text on statecraft, which gives advice to kings as to how to rule his land and discharge his duties.

Options :

1. * Mahabharata

2. * Charaka Samhita

3. ✓ Arthashastra

4. * Abhijnanashakuntalam

Question Number : 67 Question Id : 54592751375 Question Type : MCQ Option Shuffling : Yes

Correct Marks : 1 Wrong Marks : 0.25

_____ शासन कला पर एक ग्रंथ है, जो राजाओं को सलाह देता है कि वह अपने राज्य पर शासन कैसे करें और अपने कर्तव्यों का निर्वहन कैसे करें।

Options :

1. * महाभारत
2. * चरक संहिता
3. ✓ अर्थशास्त्र
4. * अभिज्ञानशाकुंतलम

Question Number : 68 Question Id : 54592751376 Question Type : MCQ Option Shuffling : Yes
Correct Marks : 1 Wrong Marks : 0.25

Which of the following has been classified as a medical condition by WHO in May 2019?

Options :

1. ✓ Burn – out
2. * Asthma
3. * Amputation
4. * Arthritis

Question Number : 68 Question Id : 54592751376 Question Type : MCQ Option Shuffling : Yes
Correct Marks : 1 Wrong Marks : 0.25

मई 2019 में डब्ल्यू.एच.ओ द्वारा निम्नलिखित में से किसे चिकित्सा स्थिति के रूप में वर्गीकृत किया गया है?

Options :

1. ✓ बर्न - आउट
2. * दमा
3. * विच्छेदन
4. * गठिया

Question Number : 69 Question Id : 54592751377 Question Type : MCQ Option Shuffling : Yes
Correct Marks : 1 Wrong Marks : 0.25

Which country joined International Solar Alliance in March 2019?

Options :

1. ✖ Peru
2. ✔ Bolivia
3. ✖ Mexico
4. ✖ Brazil

Question Number : 69 Question Id : 54592751377 Question Type : MCQ Option Shuffling : Yes
Correct Marks : 1 Wrong Marks : 0.25

मार्च 2019 में अंतर्राष्ट्रीय सौर गठबंधन में कौन सा देश शामिल हुआ?

Options :

1. ✖ पेरू
2. ✔ बोलीविया
3. ✖ मेक्सिको
4. ✖ ब्राज़िल

Question Number : 70 Question Id : 54592751378 Question Type : MCQ Option Shuffling : Yes
Correct Marks : 1 Wrong Marks : 0.25

World's first woman to cross Atlantic Ocean solo in a Light Sports Aircraft (LSA) named 'Mahi 'is _____.

Options :

1. ✔ Aarohi Pandit
2. ✖ Aparna Kumar
3. ✖ Bhakti Sharma
4. ✖ Archana Sardana

Question Number : 70 Question Id : 54592751378 Question Type : MCQ Option Shuffling : Yes
Correct Marks : 1 Wrong Marks : 0.25

'माही' नामक लाइट स्पोर्ट्स एयरक्राफ्ट (एल.एस.ए) में अटलांटिक महासागर को पार करने वाली दुनिया की पहली महिला _____ है।

Options :

1. ✔ आरोही पंडित

2. * अपर्णा कुमार
3. * भक्ति शर्मा
4. * अर्चना सरदना

Question Number : 71 Question Id : 54592751379 Question Type : MCQ Option Shuffling : Yes
Correct Marks : 1 Wrong Marks : 0.25

What is the name of the technology being used by Indian Railways for detecting obstructions on tracks?

Options :

1. * TRI-DENT
2. ✓ TRI-NETRA
3. * IR-TRI
4. * IR-NETRA

Question Number : 71 Question Id : 54592751379 Question Type : MCQ Option Shuffling : Yes
Correct Marks : 1 Wrong Marks : 0.25

पटरियों पर अवरोधों का पता लगाने के लिए भारतीय रेलवे द्वारा इस्तेमाल की जा रही तकनीक का क्या नाम है?

Options :

1. * ट्राई-डेंट
2. ✓ ट्राई-नेत्रा
3. * आईआर-ट्राई
4. * आईआर-नेत्रा

Question Number : 72 Question Id : 54592751380 Question Type : MCQ Option Shuffling : Yes
Correct Marks : 1 Wrong Marks : 0.25

What is the name of the device designed to assist in astronaut rescue missions by European Space Agency?

Options :

1. ✓ LESA

2. ✖ ELSA

3. ✖ ALSE

4. ✖ AELS

Question Number : 72 Question Id : 54592751380 Question Type : MCQ Option Shuffling : Yes

Correct Marks : 1 Wrong Marks : 0.25

यूरोपीय अंतरिक्ष एजेंसी द्वारा अंतरिक्ष यात्री बचाव मिशन के लिए डिज़ाइन किए गए डिवाइस का नाम क्या है?

Options :

1. ✔ लेसा

2. ✖ एल्सा

3. ✖ अलसे

4. ✖ एल्स

Question Number : 73 Question Id : 54592751381 Question Type : MCQ Option Shuffling : Yes

Correct Marks : 1 Wrong Marks : 0.25

NASA's Curiosity Rover has claimed to find which of the following gases in abundance on Mars?

Options :

1. ✔ Methane

2. ✖ Helium

3. ✖ Neon

4. ✖ Hydrogen Sulphide

Question Number : 73 Question Id : 54592751381 Question Type : MCQ Option Shuffling : Yes

Correct Marks : 1 Wrong Marks : 0.25

नासा के क्यूरियोसिटी रोवर ने मंगल पर बहुतायत में कौन सी गैस खोजने का दावा किया है?

Options :

1. ✔ मीथेन

2. * हीलियम

3. * नीयान

4. * हाइड्रोजन सल्फाइड

Question Number : 74 Question Id : 54592751382 Question Type : MCQ Option Shuffling : Yes

Correct Marks : 1 Wrong Marks : 0.25

The President of India subscribes to the oath in the presence of _____.

Options :

1. * Vice President

2. * Prime Minister

3. ✓ Chief Justice of India

4. * Chief Minister of any state

Question Number : 74 Question Id : 54592751382 Question Type : MCQ Option Shuffling : Yes

Correct Marks : 1 Wrong Marks : 0.25

भारत के राष्ट्रपति _____ की उपस्थिति में शपथ ग्रहण करते हैं।

Options :

1. * उप राष्ट्रपति

2. * प्रधान मंत्री

3. ✓ भारत के मुख्य न्यायाधीश

4. * किसी भी राज्य का मुख्यमंत्री

Question Number : 75 Question Id : 54592751383 Question Type : MCQ Option Shuffling : Yes

Correct Marks : 1 Wrong Marks : 0.25

When the office of Chief Justice of India is vacant, _____ may appoint one of the other judges of the court to perform duties of Chief Justice.

Options :

1. ✓ President

2. * Prime Minister

3. * Parliament

4. * Lok Sabha

Question Number : 75 Question Id : 54592751383 Question Type : MCQ Option Shuffling : Yes

Correct Marks : 1 Wrong Marks : 0.25

जब भारत के मुख्य न्यायाधीश का पद रिक्त होता है, तो _____ इस प्रयोजन के लिए न्यायालय के अन्य न्यायाधीशों में से एक को मुख्य न्यायाधीश के पद के कर्तव्यों का पालन करने के लिए नियुक्त कर सकते हैं।

Options :

1. ✓ राष्ट्रपति

2. * प्रधान मंत्री

3. * संसद

4. * लोकसभा

Question Number : 76 Question Id : 54592751384 Question Type : MCQ Option Shuffling : Yes

Correct Marks : 1 Wrong Marks : 0.25

Part III of the Indian Constitution deals with _____.

Options :

1. ✓ Fundamental Rights

2. * Fundamental Duties

3. * Directive Principles of State Policy

4. * Writs

Question Number : 76 Question Id : 54592751384 Question Type : MCQ Option Shuffling : Yes

Correct Marks : 1 Wrong Marks : 0.25

भारतीय संविधान का भाग III _____ से संबंधित है।

Options :

1. ✓ मौलिक अधिकार

2. * मौलिक कर्तव्य

3. * राज्य की नीति के निर्देशक तत्व

4. * रिट

Question Number : 77 Question Id : 54592751385 Question Type : MCQ Option Shuffling : Yes

Correct Marks : 1 Wrong Marks : 0.25

How many languages at present are specified by the Eighth Schedule of the Indian Constitution?

Options :

1. * 20

2. * 14

3. * 19

4. ✓ 22

Question Number : 77 Question Id : 54592751385 Question Type : MCQ Option Shuffling : Yes

Correct Marks : 1 Wrong Marks : 0.25

वर्तमान में संविधान की आठवीं अनुसूची द्वारा कितनी भाषाएँ निर्दिष्ट हैं?

Options :

1. * 20

2. * 14

3. * 19

4. ✓ 22

Question Number : 78 Question Id : 54592751386 Question Type : MCQ Option Shuffling : Yes

Correct Marks : 1 Wrong Marks : 0.25

Who won Asian Snooker Championship 2019?

Options :

1. * Thanawat Thirapongpaiboon

2. ✓ Pankaj Advani

3. * Tom Ford

4. * Stephen Hendry

Question Number : 78 Question Id : 54592751386 Question Type : MCQ Option Shuffling : Yes
Correct Marks : 1 Wrong Marks : 0.25

2019 की एशियाई स्नूकर चैम्पियनशिप किसने जीती?

Options :

1. * थानावत तिरपोंगपाइबून
2. ✓ पंकज आडवाणी
3. * टॉम फ़ोर्ड
4. * स्टीफन हेन्ड्री

Question Number : 79 Question Id : 54592751387 Question Type : MCQ Option Shuffling : Yes
Correct Marks : 1 Wrong Marks : 0.25

Which of the following is a sport played in Asian Games?

- I. Shooting
- II. Archery
- III. Boxing

Options :

1. * I and II
2. * I and III
3. * II and III
4. ✓ I, II and III

Question Number : 79 Question Id : 54592751387 Question Type : MCQ Option Shuffling : Yes
Correct Marks : 1 Wrong Marks : 0.25

निम्नलिखित में से कौन सा खेल एशियन खेलों में खेला जाता है?

- I. शूटिंग
- II. तीरंदाजी
- III. मुक्केबाजी

Options :

1. * I तथा II
2. * I तथा III
3. * II तथा III
4. ✓ I, II तथा III

Question Number : 80 Question Id : 54592751388 Question Type : MCQ Option Shuffling : Yes
Correct Marks : 1 Wrong Marks : 0.25

Which former Indian cricketer has been made the head of cricket at National Cricket Academy (NCA) on July 8, 2019?

Options :

1. * Sachin Tendulkar
2. * Sunil Gavaskar
3. * Saurav Ganguly
4. ✓ Rahul Dravid

Question Number : 80 Question Id : 54592751388 Question Type : MCQ Option Shuffling : Yes
Correct Marks : 1 Wrong Marks : 0.25

8 जुलाई 2019, को किस पूर्व भारतीय क्रिकेटर को राष्ट्रीय क्रिकेट अकादमी (NCA) में क्रिकेट का प्रमुख बनाया गया है?

Options :

1. * सचिन तेंदुलकर
2. * सुनिल गावस्कर

3. ✖ सौरव गांगुली

4. ✔ राहुल द्रविड़

Arithmetic Ability1

Group Number :	5
Group Id :	5459272545
Group Maximum Duration :	0
Group Minimum Duration :	0
Show Attended Group? :	No
Edit Attended Group? :	No
Break time:	0
Group Marks:	20
Is this Group for Examiner? :	No
Revisit allowed for group Instructions? :	Yes
Maximum Instruction Time:	0
Minimum Instruction Time:	0

Arithmetic Ability1

Section Id :	5459272545
Section Number :	1
Section type :	Online
Mandatory or Optional:	Mandatory
Number of Questions:	20
Number of Questions to be attempted:	20
Section Marks:	20

Sub-Section Number:	1
Sub-Section Id:	5459273053
Question Shuffling Allowed :	Yes

Question Number : 81 Question Id : 54592751389 Question Type : MCQ Option Shuffling : Yes
Correct Marks : 1 Wrong Marks : 0.25

What is the value of $21 \div 7 - [6 - \{4 - (8 \div 4 \times 8)\}]$?

Options :

1. ✔ -15

2. ✖ -12

3. ✖ 15

4. ✖ 12

Question Number : 81 Question Id : 54592751389 Question Type : MCQ Option Shuffling : Yes

Correct Marks : 1 Wrong Marks : 0.25

$21 \div 7 - [6 - \{4 - (8 \div 4 \times 8)\}]$ का मान क्या है?

Options :

1. ✓ -15

2. ✗ -12

3. ✗ 15

4. ✗ 12

Question Number : 82 Question Id : 54592751390 Question Type : MCQ Option Shuffling : Yes

Correct Marks : 1 Wrong Marks : 0.25

What is the value of: $\frac{(0.25)^3}{1-0.75}$

Options :

1. ✗ 0.0125

2. ✗ 0.0312

3. ✓ 0.0625

4. ✗ 0.3125

Question Number : 82 Question Id : 54592751390 Question Type : MCQ Option Shuffling : Yes

Correct Marks : 1 Wrong Marks : 0.25

$\frac{(0.25)^3}{1-0.75}$ का मान क्या है?

Options :

1. ✗ 0.0125

2. ✗ 0.0312

3. ✓ 0.0625

4. ✗ 0.3125

Question Number : 83 Question Id : 54592751391 Question Type : MCQ Option Shuffling : Yes

Correct Marks : 1 Wrong Marks : 0.25

What is the value of $46 + 72 \times (1/6) - 168 \div 6$?

Options :

1. ✖ 28

2. ✔ 30

3. ✖ 42

4. ✖ 56

Question Number : 83 Question Id : 54592751391 Question Type : MCQ Option Shuffling : Yes
Correct Marks : 1 Wrong Marks : 0.25

$46 + 72 \times (1/6) - 168 \div 6$ का मान क्या है?

Options :

1. ✖ 28

2. ✔ 30

3. ✖ 42

4. ✖ 56

Question Number : 84 Question Id : 54592751392 Question Type : MCQ Option Shuffling : Yes
Correct Marks : 1 Wrong Marks : 0.25

What is the value of $142 \times 15 - 132 \div 11 + 48$?

Options :

1. ✖ 1655

2. ✔ 2166

3. ✖ 1832

4. ✖ 2450

Question Number : 84 Question Id : 54592751392 Question Type : MCQ Option Shuffling : Yes
Correct Marks : 1 Wrong Marks : 0.25

$142 \times 15 - 132 \div 11 + 48$ का मान क्या है?

Options :

1. ✖ 1655

2. ✓ 2166

3. ✗ 1832

4. ✗ 2450

Question Number : 85 Question Id : 54592751393 Question Type : MCQ Option Shuffling : Yes
Correct Marks : 1 Wrong Marks : 0.25

If $x = \frac{(0.03)^2 - (0.01)^2}{(0.03) - (0.01)} + \sqrt{0.09}$, then what is the value of x?

Options :

1. ✗ 0.44

2. ✗ 0.31

3. ✓ 0.34

4. ✗ 0.41

Question Number : 85 Question Id : 54592751393 Question Type : MCQ Option Shuffling : Yes
Correct Marks : 1 Wrong Marks : 0.25

यदि $x = \frac{(0.03)^2 - (0.01)^2}{(0.03) - (0.01)} + \sqrt{0.09}$ है, तो x का मान क्या है?

Options :

1. ✗ 0.44

2. ✗ 0.31

3. ✓ 0.34

4. ✗ 0.41

Question Number : 86 Question Id : 54592751394 Question Type : MCQ Option Shuffling : Yes
Correct Marks : 1 Wrong Marks : 0.25

What is the value of: $\frac{19}{43} + \frac{1}{2 + \frac{1}{3 + \frac{1}{1 + \frac{1}{4}}}}$

Options :

1. ✓ 38/43

2. ✗ 48/43

3. ✗ 28/43

4. ✗ 35/43

Question Number : 86 Question Id : 54592751394 Question Type : MCQ Option Shuffling : Yes
Correct Marks : 1 Wrong Marks : 0.25

$$\frac{19}{43} + \frac{1}{2 + \frac{1}{3 + \frac{1}{1 + \frac{1}{4}}}}$$
 का मान क्या है?

Options :

1. ✓ 38/43

2. ✗ 48/43

3. ✗ 28/43

4. ✗ 35/43

Question Number : 87 Question Id : 54592751395 Question Type : MCQ Option Shuffling : Yes
Correct Marks : 1 Wrong Marks : 0.25

$$\text{What is the value of: } \sqrt{5 + \sqrt{11 + \sqrt{19 + \sqrt{29 + \sqrt{49}}}}}$$

Options :

1. ✓ 3

2. ✗ 3.5

3. ✗ 4

4. ✗ 4.5

Question Number : 87 Question Id : 54592751395 Question Type : MCQ Option Shuffling : Yes
Correct Marks : 1 Wrong Marks : 0.25

$$\sqrt{5 + \sqrt{11 + \sqrt{19 + \sqrt{29 + \sqrt{49}}}}} \text{ का मान क्या है?}$$

Options :

1. ✓ 3

2. ✗ 3.5

3. ✗ 4

4. ✗ 4.5

Question Number : 88 Question Id : 54592751396 Question Type : MCQ Option Shuffling : Yes
Correct Marks : 1 Wrong Marks : 0.25

What is the value of: $\sqrt{\frac{\left(3\frac{1}{4}\right)^4 - \left(4\frac{1}{3}\right)^4}{\left(3\frac{1}{4}\right)^2 - \left(4\frac{1}{3}\right)^2}}$

Options :

1. ✗ 6.42

2. ✗ 5.82

3. ✓ 5.41

4. ✗ 6.41

Question Number : 88 Question Id : 54592751396 Question Type : MCQ Option Shuffling : Yes
Correct Marks : 1 Wrong Marks : 0.25

$\sqrt{\frac{\left(3\frac{1}{4}\right)^4 - \left(4\frac{1}{3}\right)^4}{\left(3\frac{1}{4}\right)^2 - \left(4\frac{1}{3}\right)^2}}$ का मान क्या है?

Options :

1. ✗ 6.42

2. ✗ 5.82

3. ✓ 5.41

4. ✗ 6.41

Question Number : 89 Question Id : 54592751397 Question Type : MCQ Option Shuffling : Yes
Correct Marks : 1 Wrong Marks : 0.25

What is the value of $1/(3 \times 5) + 1/(5 \times 7) + 1/(7 \times 9) + 1/(9 \times 11) + 1/(11 \times 13) + 1/(13 \times 15)$?

Options :

1. ✓ $2/15$
2. ✗ $8/15$
3. ✗ $4/15$
4. ✗ $7/15$

Question Number : 89 Question Id : 54592751397 Question Type : MCQ Option Shuffling : Yes

Correct Marks : 1 Wrong Marks : 0.25

$1/(3 \times 5) + 1/(5 \times 7) + 1/(7 \times 9) + 1/(9 \times 11) + 1/(11 \times 13) + 1/(13 \times 15)$ का मान क्या है?

Options :

1. ✓ $2/15$
2. ✗ $8/15$
3. ✗ $4/15$
4. ✗ $7/15$

Question Number : 90 Question Id : 54592751398 Question Type : MCQ Option Shuffling : Yes

Correct Marks : 1 Wrong Marks : 0.25

What is that largest number which after dividing 3500 and 2300 gives remainder 56 and 32 respectively?

Options :

1. ✗ 42
2. ✓ 84
3. ✗ 136
4. ✗ 168

Question Number : 90 Question Id : 54592751398 Question Type : MCQ Option Shuffling : Yes

Correct Marks : 1 Wrong Marks : 0.25

वह सबसे बड़ी संख्या क्या है जोकि 3500 तथा 2300 को विभाजित करने के पश्चात शेषफल क्रमशः 56 तथा 32 प्रदान करती है?

Options :

1. ✖ 42
2. ✔ 84
3. ✖ 136
4. ✖ 168

Question Number : 91 Question Id : 54592751399 Question Type : MCQ Option Shuffling : Yes
Correct Marks : 1 Wrong Marks : 0.25

The average of 6 consecutive odd numbers is 22. What is the difference between the largest number and the smallest number?

Options :

1. ✖ 11
2. ✖ 12
3. ✔ 10
4. ✖ 8

Question Number : 91 Question Id : 54592751399 Question Type : MCQ Option Shuffling : Yes
Correct Marks : 1 Wrong Marks : 0.25

6 लगातार विषम संख्याओं का औसत 22 है। सबसे बड़ी तथा सबसे छोटी संख्या के बीच का अंतर क्या है?

Options :

1. ✖ 11
2. ✖ 12
3. ✔ 10
4. ✖ 8

Question Number : 92 Question Id : 54592751400 Question Type : MCQ Option Shuffling : Yes
Correct Marks : 1 Wrong Marks : 0.25

The average of 13 numbers is 11. The average of first 7 numbers is 9 and the average of last 7 numbers is 13. What is the value of the 7th numbers?

Options :

1. ✖ 13
2. ✖ 12
3. ✔ 11
4. ✖ 14

Question Number : 92 Question Id : 54592751400 Question Type : MCQ Option Shuffling : Yes
Correct Marks : 1 Wrong Marks : 0.25

13 संख्याओं का औसत 11 है। पहली 7 संख्याओं का औसत 9 है तथा अंतिम 7 संख्याओं का औसत 13 है। 7वीं संख्या का मान क्या है?

Options :

1. ✖ 13
2. ✖ 12
3. ✔ 11
4. ✖ 14

Question Number : 93 Question Id : 54592751401 Question Type : MCQ Option Shuffling : Yes
Correct Marks : 1 Wrong Marks : 0.25

A bowler takes an average of 6 wickets per match in first 8 matches. He takes an average of 5 wickets per match in all the 16 matches. What is the average wickets taken by the bowler per match for last 8 matches?

Options :

1. ✖ 6
2. ✖ 3
3. ✖ 5

4. ✓ 4

Question Number : 93 Question Id : 54592751401 Question Type : MCQ Option Shuffling : Yes
Correct Marks : 1 Wrong Marks : 0.25

एक गेंदबाज पहले 8 मैचों में प्रति मैच औसतन 6 विकेट लेता है। वह सभी 16 मैचों में प्रति मैच औसतन 5 विकेट लेता है। अंतिम 8 मैचों में प्रति मैच गेंदबाज द्वारा लिए गए औसत विकेट क्या हैं?

Options :

1. ✗ 6

2. ✗ 3

3. ✗ 5

4. ✓ 4

Question Number : 94 Question Id : 54592751402 Question Type : MCQ Option Shuffling : Yes
Correct Marks : 1 Wrong Marks : 0.25

In an examination, 94% of the total students passed and 84 students failed. What is the total number of students who have appeared in the exam?

Options :

1. ✗ 1100

2. ✗ 1200

3. ✗ 1300

4. ✓ 1400

Question Number : 94 Question Id : 54592751402 Question Type : MCQ Option Shuffling : Yes
Correct Marks : 1 Wrong Marks : 0.25

एक परीक्षा में कुल छात्रों के 94% उत्तीर्ण हुए तथा 84 छात्र अनुत्तीर्ण हुए। परीक्षा में बैठने वाले छात्रों की कुल संख्या क्या है?

Options :

1. ✗ 1100

2. ✖ 1200

3. ✖ 1300

4. ✔ 1400

Question Number : 95 Question Id : 54592751403 Question Type : MCQ Option Shuffling : Yes
Correct Marks : 1 Wrong Marks : 0.25

The income of Z is 40% more than the income of Y and the income of Y is 40% more than the income of X. The income of Z is how much percent more than the income of X?

Options :

1. ✖ 88 percent

2. ✖ 80 percent

3. ✔ 96 percent

4. ✖ 84 percent

Question Number : 95 Question Id : 54592751403 Question Type : MCQ Option Shuffling : Yes
Correct Marks : 1 Wrong Marks : 0.25

Z की आय, Y की आय से 40% अधिक है तथा Y की आय X की आय से 40% अधिक है। Z की आय, X की आय से कितनी प्रतिशत अधिक है?

Options :

1. ✖ 88 प्रतिशत

2. ✖ 80 प्रतिशत

3. ✔ 96 प्रतिशत

4. ✖ 84 प्रतिशत

Question Number : 96 Question Id : 54592751404 Question Type : MCQ Option Shuffling : Yes
Correct Marks : 1 Wrong Marks : 0.25

Rahul got 16% less marks than Mohit. Sumit got 44% less marks than Mohit. If Sumit got 252 marks, then what are the marks of Rahul?

Options :

1. ✖ 410
2. ✖ 420
3. ✔ 378
4. ✖ 305

Question Number : 96 Question Id : 54592751404 Question Type : MCQ Option Shuffling : Yes

Correct Marks : 1 Wrong Marks : 0.25

राहुल को मोहित से 16% कम अंक प्राप्त हुए हैं। सुमित को मोहित से 44% कम अंक प्राप्त हुए हैं। यदि सुमित को 252 अंक प्राप्त हुए हैं, तो राहुल के अंक क्या हैं?

Options :

1. ✖ 410
2. ✖ 420
3. ✔ 378
4. ✖ 305

Question Number : 97 Question Id : 54592751405 Question Type : MCQ Option Shuffling : Yes

Correct Marks : 1 Wrong Marks : 0.25

By selling a glass for Rs. 1040 a man gains 4%. If he sells it for Rs. 950, then what is the value of loss percent?

Options :

1. ✔ 5 percent
2. ✖ 4 percent
3. ✖ 4.5 percent
4. ✖ 9 percent

Question Number : 97 Question Id : 54592751405 Question Type : MCQ Option Shuffling : Yes
Correct Marks : 1 Wrong Marks : 0.25

एक व्यक्ति एक गिलास को 1040 रुपये में बेचने पर 4% का लाभ कमाता है। यदि वह उसे 950 रुपये में बेचता है, तो हानि प्रतिशत का मान क्या है?

Options :

1. ✓ 5 प्रतिशत
2. ✗ 4 प्रतिशत
3. ✗ 4.5 प्रतिशत
4. ✗ 9 प्रतिशत

Question Number : 98 Question Id : 54592751406 Question Type : MCQ Option Shuffling : Yes
Correct Marks : 1 Wrong Marks : 0.25

A person buys three spectacles at the rate of Rs. 1500 each. He sells first spectacles at profit of 30%, sells second spectacles at a loss of 15% and sells third spectacles at a loss of 5%. What is the total profit/loss percentage in the whole transaction?

Options :

1. ✗ 4 percent, loss
2. ✓ 3.33 percent, profit
3. ✗ 3.33 percent, loss
4. ✗ 4 percent, profit

Question Number : 98 Question Id : 54592751406 Question Type : MCQ Option Shuffling : Yes
Correct Marks : 1 Wrong Marks : 0.25

एक व्यक्ति तीन चश्मे 1500 रुपये प्रति की दर से खरीदता है। वह पहले चश्मे को 30% के लाभ पर बेचता है, दूसरे चश्मे को 15% की हानि पर बेचता है तथा तीसरे चश्मे को 5% की हानि पर बेचता है। पूरे लेन - देन में कुल कितना प्रतिशत लाभ/हानि हुआ है?

Options :

1. ✖ 4 प्रतिशत, हानि
2. ✔ 3.33 प्रतिशत, लाभ
3. ✖ 3.33 प्रतिशत, हानि
4. ✖ 4 प्रतिशत, लाभ

Question Number : 99 Question Id : 54592751407 Question Type : MCQ Option Shuffling : Yes
Correct Marks : 1 Wrong Marks : 0.25

Mohan bought a new car from the showroom and after one year he sold it to Shyam at a gain of 20%. Shyam sold the same car to Sumit at the loss of 33.33%. Finally Sumit paid Rs. 96,000 for this car. At what price Mohan bought the car?

Options :

1. ✖ Rs. 44,000
2. ✖ Rs. 1,36,000
3. ✔ Rs. 1,20,000
4. ✖ Rs. 1,50,000

Question Number : 99 Question Id : 54592751407 Question Type : MCQ Option Shuffling : Yes
Correct Marks : 1 Wrong Marks : 0.25

मोहन ने शोरूम से एक नई कार खरीदी और एक वर्ष बाद उसने इसे श्याम को 20% के लाभ पर बेच दिया। श्याम ने उसी कार को 33.33% की हानि पर सुमित को बेच दिया। अंत में सुमित ने इस कार के लिए 96,000 रुपये का भुगतान किया। मोहन ने कार किस मूल्य पर खरीदी थी?

Options :

1. ✖ 44,000 रुपये
2. ✖ 1,36,000 रुपये
3. ✔ 1,20,000 रुपये

4. ✖ 1,50,000 रुपये

Question Number : 100 Question Id : 54592751408 Question Type : MCQ Option Shuffling : Yes

Correct Marks : 1 Wrong Marks : 0.25

If $a : b : c = 1 : 2 : 3$, then what is $(a/2) : (b/3) : (c/6)$?

Options :

1. ✖ 1 : 4 : 2

2. ✖ 2 : 3 : 1

3. ✔ 3 : 4 : 3

4. ✖ 6 : 3 : 2

Question Number : 100 Question Id : 54592751408 Question Type : MCQ Option Shuffling : Yes

Correct Marks : 1 Wrong Marks : 0.25

यदि $a : b : c = 1 : 2 : 3$ है, तो $(a/2) : (b/3) : (c/6)$ क्या है?

Options :

1. ✖ 1 : 4 : 2

2. ✖ 2 : 3 : 1

3. ✔ 3 : 4 : 3

4. ✖ 6 : 3 : 2

Arithmetic Ability2

Group Number :	6
Group Id :	5459272546
Group Maximum Duration :	0
Group Minimum Duration :	0
Show Attended Group? :	No
Edit Attended Group? :	No
Break time:	0
Group Marks:	20
Is this Group for Examiner? :	No
Revisit allowed for group Instructions? :	Yes
Maximum Instruction Time:	0
Minimum Instruction Time:	0

Arithmetic Ability2

Section Id :	5459272546
Section Number :	1
Section type :	Online
Mandatory or Optional:	Mandatory
Number of Questions:	20
Number of Questions to be attempted:	20
Section Marks:	20

Sub-Section Number:	1
Sub-Section Id:	5459273054
Question Shuffling Allowed :	Yes

Question Number : 101 Question Id : 54592751409 Question Type : MCQ Option Shuffling : Yes
Correct Marks : 1 Wrong Marks : 0.25

A and B enter into a partnership and invested Rs. 6000 and Rs. 5000 respectively in the business. After 4 months, C also joins the business with an investment of Rs. 11,000. After one year, they earn a the profit of Rs. 3300. What is the profit share of B?

Options :

1. * Rs. 1000
2. * Rs. 1100
3. ✓ Rs. 900
4. * Rs. 800

Question Number : 101 Question Id : 54592751409 Question Type : MCQ Option Shuffling : Yes
Correct Marks : 1 Wrong Marks : 0.25

A तथा B ने एक साझेदारी में प्रवेश किया तथा व्यवसाय में क्रमशः 6000 रुपये तथा 5000 रुपये निवेश किये। 4 महीने बाद C भी व्यवसाय में 11000 रुपये के निवेश के साथ शामिल हो जाता है। एक वर्ष पश्चात उन्होंने 3300 रुपये लाभ कमाया। B का लाभ का हिस्सा क्या है?

Options :

1. * 1000 रुपये

2. ✖ 1100 रुपये

3. ✔ 900 रुपये

4. ✖ 800 रुपये

Question Number : 102 Question Id : 54592751410 Question Type : MCQ Option Shuffling : Yes
Correct Marks : 1 Wrong Marks : 0.25

Three partners A, B and C invested a total amount of Rs. 22,000 in a business. At the end of the year, A got Rs. 1320, B got Rs. 1680 and C got Rs. 2280 as the share of profit. How much amount did B invest in the business?

Options :

1. ✖ Rs. 5500

2. ✔ Rs.7000

3. ✖ Rs. 6000

4. ✖ Rs. 8400

Question Number : 102 Question Id : 54592751410 Question Type : MCQ Option Shuffling : Yes
Correct Marks : 1 Wrong Marks : 0.25

तीन साझेदारों ने A, B तथा C एक व्यवसाय में 22000 रुपये निवेश किये। वर्ष के अंत में A को 1320 रुपये, B को 1680 रुपये तथा C को 2280 रुपये, लाभ के हिस्से के रूप में प्राप्त होते हैं। B ने व्यवसाय में कितनी राशि का निवेश किया?

Options :

1. ✖ 5500 रुपये

2. ✔ 7000 रुपये

3. ✖ 6000 रुपये

4. ✖ 8400 रुपये

Question Number : 103 Question Id : 54592751411 Question Type : MCQ Option Shuffling : Yes
Correct Marks : 1 Wrong Marks : 0.25

If the simple interest on certain sum for 5 years at the rate of 10% for annum is Rs. 9000, then what is the sum?

Options :

1. * Rs. 16000
2. * Rs. 12000
3. ✓ Rs. 18000
4. * Rs. 20000

Question Number : 103 Question Id : 54592751411 Question Type : MCQ Option Shuffling : Yes

Correct Marks : 1 Wrong Marks : 0.25

यदि एक निश्चित राशि पर 10% प्रति वर्ष की दर से 5 वर्ष का साधारण ब्याज 9000 रुपये है, तो राशि क्या है?

Options :

1. * 16000 रुपये
2. * 12000 रुपये
3. ✓ 18000 रुपये
4. * 20000 रुपये

Question Number : 104 Question Id : 54592751412 Question Type : MCQ Option Shuffling : Yes

Correct Marks : 1 Wrong Marks : 0.25

In 4 years, Rs. 4800 becomes Rs. 6000 at the rate of compound interest (compounded annually). What will be the amount after 12 Years?

Options :

1. * Rs. 7675
2. * Rs. 9175
3. ✓ Rs. 9375
4. * Rs. 9975

Question Number : 104 Question Id : 54592751412 Question Type : MCQ Option Shuffling : Yes

Correct Marks : 1 Wrong Marks : 0.25

4800 रुपये की राशि चक्रवृद्धि ब्याज की दर से (वार्षिक संयोजन पर) 4 वर्षों में 6000 रुपये हो जाती है। 12 वर्षों बाद राशि क्या होगी?

Options :

1. ✖ 7675 रुपये
2. ✖ 9175 रुपये
3. ✔ 9375 रुपये
4. ✖ 9975 रुपये

Question Number : 105 Question Id : 54592751413 Question Type : MCQ Option Shuffling : Yes

Correct Marks : 1 Wrong Marks : 0.25

Rs. 6250 becomes Rs. 6632.55 at the rate of 4% per annum on compound interest (compounded half yearly). What is the time period?

Options :

1. ✖ 1 year
2. ✔ $3/2$ years
3. ✖ 2 years
4. ✖ $5/2$ years

Question Number : 105 Question Id : 54592751413 Question Type : MCQ Option Shuffling : Yes

Correct Marks : 1 Wrong Marks : 0.25

4% प्रतिवर्ष की ब्याज दर से चक्रवृद्धि ब्याज (अर्धवार्षिक संयोजन पर) पर 6250 रुपये, 6632.55 रुपये हो जाते हैं। समयावधि क्या है?

Options :

1. ✖ 1 वर्ष
2. ✔ $3/2$ वर्ष
3. ✖ 2 वर्ष
4. ✖ $5/2$ वर्ष

Question Number : 106 Question Id : 54592751414 Question Type : MCQ Option Shuffling : Yes
Correct Marks : 1 Wrong Marks : 0.25

The speed of a train is 90 km/hr and length of the train is 500 metre. What is the time taken by the train to cross a platform of length 750 metres?

Options :

1. ✓ 50 seconds
2. ✗ 40 seconds
3. ✗ 60 seconds
4. ✗ 90 seconds

Question Number : 106 Question Id : 54592751414 Question Type : MCQ Option Shuffling : Yes
Correct Marks : 1 Wrong Marks : 0.25

एक रेलगाड़ी की गति 90 कि.मी./घंटा है तथा रेलगाड़ी की लम्बाई 500 मीटर है। एक 750 मीटर लम्बे प्लेटफॉर्म को पार करने में रेलगाड़ी कितना समय लेगी?

Options :

1. ✓ 50 सेकण्ड
2. ✗ 40 सेकण्ड
3. ✗ 60 सेकण्ड
4. ✗ 90 सेकण्ड

Question Number : 107 Question Id : 54592751415 Question Type : MCQ Option Shuffling : Yes
Correct Marks : 1 Wrong Marks : 0.25

A train travels $\frac{3}{5}$ of the total journey at its usual speed and remaining distance at $\frac{4}{5}$ of its usual speed. Due to slow speed it reaches destination 1 hour late. If the total distance is 500 km, then what is the usual speed of the train?

Options :

1. ✗ 45 km/hr
2. ✓ 50 km/hr

3. ✖ 55 km/hr

4. ✖ 60 km/hr

Question Number : 107 Question Id : 54592751415 Question Type : MCQ Option Shuffling : Yes

Correct Marks : 1 Wrong Marks : 0.25

एक रेलगाड़ी कुल यात्रा का $\frac{3}{5}$ भाग अपनी सामान्य गति से तय करती है तथा शेष दूरी अपनी सामान्य गति के $\frac{4}{5}$ से तय करती है। धीमी गति के कारण वह गंतव्य पर 1 घंटा देर से पहुँचती है। यदि कुल दूरी 500 कि.मी. है, तो रेलगाड़ी की सामान्य गति क्या है?

Options :

1. ✖ 45 कि.मी./घंटा

2. ✔ 50 कि.मी./घंटा

3. ✖ 55 कि.मी./घंटा

4. ✖ 60 कि.मी./घंटा

Question Number : 108 Question Id : 54592751416 Question Type : MCQ Option Shuffling : Yes

Correct Marks : 1 Wrong Marks : 0.25

A man covers first 60 km distance at a speed of 60 km/hr. Next 60 km at a speed of 90 km/hr and last 60 km distance at a speed of 180 km/hr. What is the average speed of the man?

Options :

1. ✖ 80 km/hr

2. ✖ 70 km/hr

3. ✔ 90 km/hr

4. ✖ 60 km/hr

Question Number : 108 Question Id : 54592751416 Question Type : MCQ Option Shuffling : Yes

Correct Marks : 1 Wrong Marks : 0.25

एक आदमी पहली 60 कि.मी. की दूरी 60 कि.मी./घंटा की गति से तय करता है। अगले 60 कि.मी., 90 कि.मी./घंटा की गति से तथा अंतिम 60 कि.मी., 180 कि.मी./घंटा की गति से। व्यक्ति की औसत गति क्या है?

Options :

1. ✖ 80 कि.मी./घंटा
2. ✖ 70 कि.मी./घंटा
3. ✔ 90 कि.मी./घंटा
4. ✖ 60 कि.मी./घंटा

Question Number : 109 Question Id : 54592751417 Question Type : MCQ Option Shuffling : Yes

Correct Marks : 1 Wrong Marks : 0.25

A1 can do a piece of work in 20 days and A2 can do the same work in 24 days. With help of A3, they finish the work in 8 days. In how many days A3 alone can do the same work?

Options :

1. ✔ 30 days
2. ✖ 28 days
3. ✖ 34 days
4. ✖ 18 days

Question Number : 109 Question Id : 54592751417 Question Type : MCQ Option Shuffling : Yes

Correct Marks : 1 Wrong Marks : 0.25

A1 किसी कार्य को 20 दिनों में कर सकता है तथा A2 उसी कार्य को 24 दिनों में कर सकता है। A3 की सहायता से वे कार्य 8 दिनों में समाप्त कर सकते हैं। A3 अकेला उस कार्य को कितने दिनों में कर सकता है?

Options :

1. ✔ 30 दिन

2. * 28 दिन

3. * 34 दिन

4. * 18 दिन

Question Number : 110 Question Id : 54592751418 Question Type : MCQ Option Shuffling : Yes

Correct Marks : 1 Wrong Marks : 0.25

B1, B2 and B3 can complete a work in 20, 24 and 30 days respectively. All three of them starts together but after 4 days B1 leaves the job and B2 left the job 6 days before the work was completed. B3 completed the remaining work alone. In how many days was the total work completed?

Options :

1. * 12 days

2. * 13 days

3. ✓ 14 days

4. * 15 days

Question Number : 110 Question Id : 54592751418 Question Type : MCQ Option Shuffling : Yes

Correct Marks : 1 Wrong Marks : 0.25

B1, B2 तथा B3 एक कार्य को क्रमशः 20, 24 तथा 30 दिनों में पूरा कर सकते हैं। तीनों ने मिलकर कार्य आरंभ किया परन्तु 4 दिन के पश्चात B1 ने कार्य छोड़ दिया तथा B2 ने कार्य पूरा होने के 6 दिन पहले कार्य छोड़ दिया। B3 ने शेष कार्य अकेले ही पूर्ण किया। कुल कार्य कितने दिनों में पूरा हुआ?

Options :

1. * 12 दिन

2. * 13 दिन

3. ✓ 14 दिन

4. * 15 दिन

Question Number : 111 Question Id : 54592751419 Question Type : MCQ Option Shuffling : Yes

Correct Marks : 1 Wrong Marks : 0.25

S1, S2 and S3 can complete a work in 20, 24 and 30 days respectively. They received Rs. 18000 to complete the work. They begin the work together but S1 left the work after 3 days and S3 left the work 6 days before the completion of the work. S2 has completed the remaining work alone. What is the share of S2 from the total money?

Options :

1. * Rs. 9000
2. ✓ Rs. 10,500
3. * Rs. 12000
4. * Rs. 11, 500

Question Number : 111 Question Id : 54592751419 Question Type : MCQ Option Shuffling : Yes

Correct Marks : 1 Wrong Marks : 0.25

S1, S2, तथा S3 एक कार्य को क्रमशः 20 दिन, 24 दिन तथा 30 दिन में पूरा कर सकते हैं। उन्हें कार्य पूरा करने के लिए 18000 रुपये मिले। वे एक साथ कार्य शुरू करते हैं, परन्तु 3 दिन पश्चात S1 कार्य छोड़ दोता है तथा S3 कार्य पूरा होने से 6 दिन पहले कार्य छोड़ देता है। S2 ने शेष कार्य अकेले ही पूर्ण किया। कुल रुपयों में से S2 का हिस्सा क्या है?

Options :

1. * 9000 रुपये
2. ✓ 10,500 रुपये
3. * 12000 रुपये
4. * 11,500 रुपये

Question Number : 112 Question Id : 54592751420 Question Type : MCQ Option Shuffling : Yes

Correct Marks : 1 Wrong Marks : 0.25

Half of the perimeter of a rectangle is 24 cm. If the length of the rectangle is 4 cm more than its breadth, then what is the area of the rectangle?

Options :

1. ✘ 120 cm²

2. ✘ 96 cm²

3. ✔ 140 cm²

4. ✘ 160 cm²

Question Number : 112 Question Id : 54592751420 Question Type : MCQ Option Shuffling : Yes

Correct Marks : 1 Wrong Marks : 0.25

एक आयत के परिमाण का आधा 24 से.मी. है। यदि आयत की लंबाई उसकी चौड़ाई से 4 से.मी. अधिक है, तो आयत का क्षेत्रफल क्या है?

Options :

1. ✘ 120 से.मी.²

2. ✘ 96 से.मी.²

3. ✔ 140 से.मी.²

4. ✖ 160 से.मी.²

Question Number : 113 Question Id : 54592751421 Question Type : MCQ Option Shuffling : Yes
Correct Marks : 1 Wrong Marks : 0.25

If the area of a square is 18 cm^2 , then what is the length of its diagonal?

Options :

1. ✖ $3\sqrt{2} \text{ cm}$

2. ✓ 6 cm

3. ✖ $6\sqrt{2} \text{ cm}$

4. ✖ 9 cm

Question Number : 113 Question Id : 54592751421 Question Type : MCQ Option Shuffling : Yes
Correct Marks : 1 Wrong Marks : 0.25

यदि एक वर्ग का क्षेत्रफल 18 से.मी.^2 है, तो उसके विकर्ण की लंबाई क्या है?

Options :

1. ✖ $3\sqrt{2} \text{ से.मी.}$

2. ✓ 6 से.मी.

3. ✖ $6\sqrt{2} \text{ से.मी.}$

4. ✖ 9 से.मी.

Question Number : 114 Question Id : 54592751422 Question Type : MCQ Option Shuffling : Yes
Correct Marks : 1 Wrong Marks : 0.25

The height of a cone is half of its radius. If the cone is melted to form a sphere, then what is the ratio of the radius of the sphere to the radius of the cone?

Options :

1. ✖ $1 : 4$

2. ✓ $1 : 2$

3. ✖ $2 : 1$

4. ✖ $1 : 8$

Question Number : 114 Question Id : 54592751422 Question Type : MCQ Option Shuffling : Yes

Correct Marks : 1 Wrong Marks : 0.25

एक शंकु की ऊँचाई उसकी त्रिज्या से आधी है। यदि शंकु को एक गोला बनाने के लिए पिघलाया गया है, तो गोले की त्रिज्या का शंकु की त्रिज्या से क्या अनुपात है?

Options :

1. ✖ 1 : 4

2. ✔ 1 : 2

3. ✖ 2 : 1

4. ✖ 1 : 8

Question Number : 115 Question Id : 54592751423 Question Type : MCQ Option Shuffling : Yes

Correct Marks : 1 Wrong Marks : 0.25

The table given below shows the speed of 7 different cars.

Car	Speed (in km/hr)
C1	208
C2	204
C3	196
C4	188
C5	316
C6	104
C7	312

What is the ratio of combined speed of C1 and C3 to combined speed of C2 and C7?

Options :

1. ✖ 96 : 103

2. ✖ 85 : 99

3. ✖ 113 : 129

4. ✔ 101 : 129

Question Number : 115 Question Id : 54592751423 Question Type : MCQ Option Shuffling : Yes

Correct Marks : 1 Wrong Marks : 0.25

नीचे दी गयी तालिका 7 विभिन्न गाड़ियों की गति को दर्शाती है।

गाड़ी	गति (कि.मी./घंटा में)
C1	208
C2	204
C3	196
C4	188
C5	316
C6	104
C7	312

C1 तथा C3 की संयुक्त गति का C2 तथा C7 की संयुक्त गति से क्या अनुपात है?

Options :

- ✘ 96 : 103
- ✘ 85 : 99
- ✘ 113 : 129
- ✔ 101 : 129

Question Number : 116 Question Id : 54592751424 Question Type : MCQ Option Shuffling : Yes

Correct Marks : 1 Wrong Marks : 0.25

The table given below shows the number of books bought by a shopkeeper on different days of a week.

Days	Number of Books
D1	84
D2	88
D3	82
D4	96

The number of books bought on day D4 is what percentage of number of books bought on day D1?

Options :

- ✘ 112.28 percent
- ✔ 114.28 percent
- ✘ 116.28 percent
- ✘ 118.28 percent

Question Number : 116 Question Id : 54592751424 Question Type : MCQ Option Shuffling : Yes

Correct Marks : 1 Wrong Marks : 0.25

नीचे दी गयी तालिका एक सप्ताह के विभिन्न दिनों पर एक दुकानदार द्वारा खरीदी गई किताबों की संख्या को दर्शाती है।

दिन	किताबों की संख्या
D1	84
D2	88
D3	82
D4	96

दिन D4 में खरीदी गई किताबों की संख्या दिन D1 में खरीदी गई किताबों की संख्या के कितने प्रतिशत है?

Options :

1. ✖ 112.28 प्रतिशत

2. ✔ 114.28 प्रतिशत

3. ✖ 116.28 प्रतिशत

4. ✖ 118.28 प्रतिशत

Question Number : 117 Question Id : 54592751425 Question Type : MCQ Option Shuffling : Yes

Correct Marks : 1 Wrong Marks : 0.25

The table given below shows the number of laptops sold by a seller on different days of a week.

Days	Number of Laptop
D1	26
D2	28
D3	30
D4	32

What is the percentage increase in the number of laptops sold on day D4 as compared to day D1?

Options :

1. ✖ 22.07 percent

2. ✔ 23.07 percent

3. ✖ 21.89 percent

4. ✖ 28.07 percent

Question Number : 117 Question Id : 54592751425 Question Type : MCQ Option Shuffling : Yes

Correct Marks : 1 Wrong Marks : 0.25

नीचे दी गयी तालिका एक सप्ताह के विभिन्न दिनों पर एक विक्रेता द्वारा बेचे गये लैपटॉप की संख्या को दर्शाती है।

दिन	लैपटॉप की संख्या
D1	26
D2	28
D3	30
D4	32

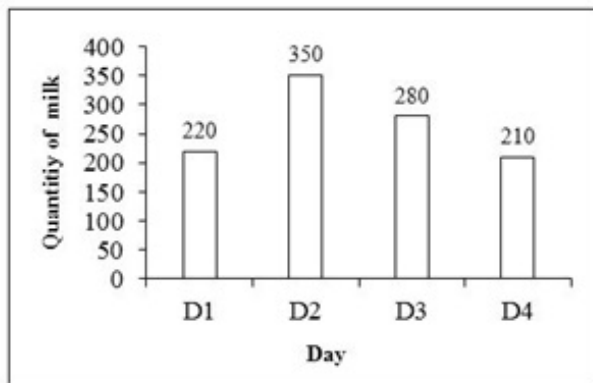
दिन D1 की तुलना में दिन D4 पर बेचे गये लैपटॉप की संख्या में कितनी प्रतिशत वृद्धि हुई है?

Options :

1. ✘ 22.07 प्रतिशत
2. ✔ 23.07 प्रतिशत
3. ✘ 21.89 प्रतिशत
4. ✘ 28.07 प्रतिशत

Question Number : 118 Question Id : 54592751426 Question Type : MCQ Option Shuffling : Yes
Correct Marks : 1 Wrong Marks : 0.25

The bar graph given below shows the quantity of milk sold by a milkman on different days of a week.



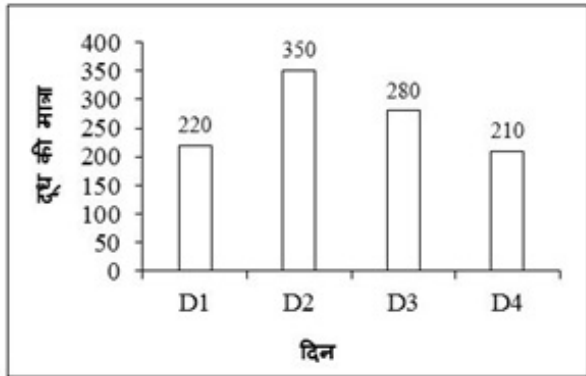
What is the ratio of quantity of milk sold on day D2 to day D4?

Options :

1. ✖ 3 : 5
2. ✖ 2 : 5
3. ✔ 5 : 3
4. ✖ 5 : 2

Question Number : 118 Question Id : 54592751426 Question Type : MCQ Option Shuffling : Yes
Correct Marks : 1 Wrong Marks : 0.25

नीचे दिया गया दण्ड चित्र एक सप्ताह के विभिन्न दिनों में एक दूधवाले द्वारा बेचे गये दूध की मात्रा को दर्शाता है।



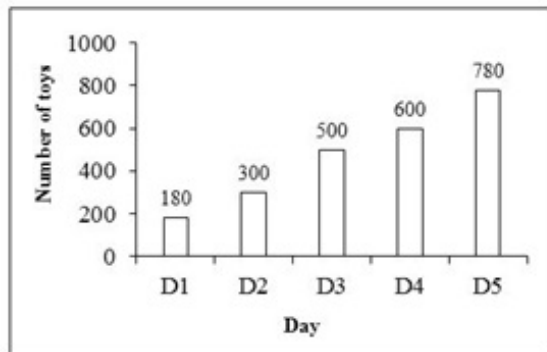
दिन D2 पर बेचे गये दूध की मात्रा का दिन D4 से क्या अनुपात है?

Options :

1. ✘ 3 : 5
2. ✘ 2 : 5
3. ✔ 5 : 3
4. ✘ 5 : 2

Question Number : 119 Question Id : 54592751427 Question Type : MCQ Option Shuffling : Yes
Correct Marks : 1 Wrong Marks : 0.25

The bar graph given below shows the number of toys manufactured by a company on different days of a week.



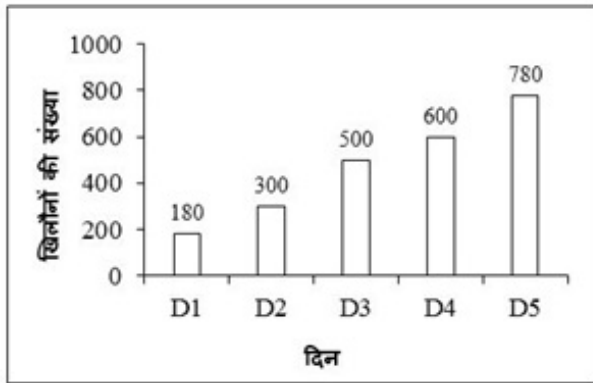
What are the average number of toys manufactured by the company per day?

Options :

1. ✖ 452
2. ✔ 472
3. ✖ 492
4. ✖ 512

Question Number : 119 Question Id : 54592751427 Question Type : MCQ Option Shuffling : Yes
Correct Marks : 1 Wrong Marks : 0.25

नीचे दिया गया दण्ड चित्र एक सप्ताह के विभिन्न दिनों में एक कंपनी द्वारा निर्मित खिलौनों की संख्या को दर्शाता है।



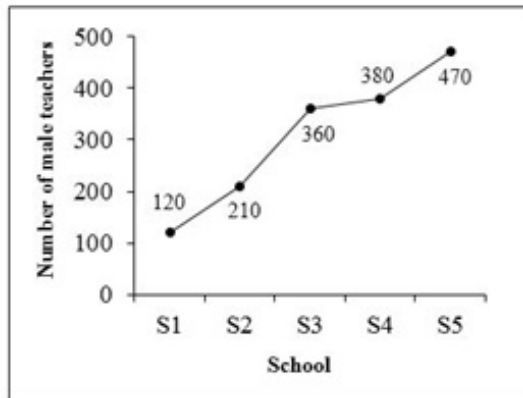
कंपनी द्वारा प्रति दिन निर्मित खिलौनों की औसत संख्या क्या है?

Options :

1. ✘ 452
2. ✔ 472
3. ✘ 492
4. ✘ 512

Question Number : 120 Question Id : 54592751428 Question Type : MCQ Option Shuffling : Yes
Correct Marks : 1 Wrong Marks : 0.25

The line graph given below shows the number of male teachers in different schools.



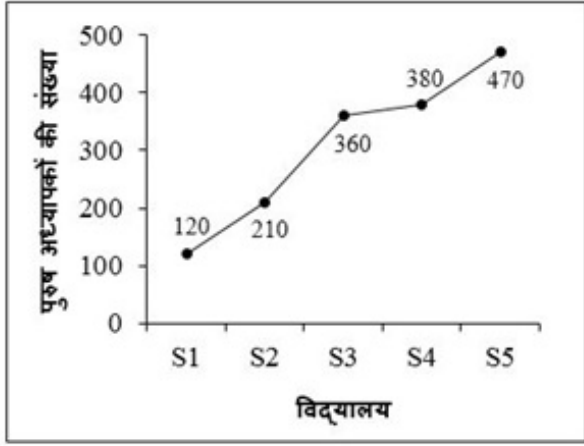
What is the ratio of total number of male teachers in school S1 and S2 together to the number of male teachers in school S4?

Options :

1. ✘ 19 : 13
2. ✘ 18 : 11
3. ✘ 19 : 16
4. ✔ 33 : 38

Question Number : 120 Question Id : 54592751428 Question Type : MCQ Option Shuffling : Yes
Correct Marks : 1 Wrong Marks : 0.25

नीचे दिया गया रेखा चित्र विभिन्न विद्यालयों में पुरुष अध्यापकों की संख्या को दर्शाता है।



विद्यालय S1 तथा S2 में मिलाकर पुरुष अध्यापकों की कुल संख्या का विद्यालय S4 में पुरुष अध्यापकों की संख्या से क्या अनुपात है?

Options :

1. ✖ 19 : 13
2. ✖ 18 : 11
3. ✖ 19 : 16
4. ✔ 33 : 38

General English1

Group Number :	7
Group Id :	5459272547
Group Maximum Duration :	0
Group Minimum Duration :	0
Show Attended Group? :	No
Edit Attended Group? :	No
Break time:	0
Group Marks:	20
Is this Group for Examiner?:	No
Revisit allowed for group Instructions? :	Yes
Maximum Instruction Time:	0
Minimum Instruction Time:	0

General English1

Section Id :	5459272547
Section Number :	1
Section type :	Online
Mandatory or Optional:	Mandatory
Number of Questions:	20
Number of Questions to be attempted:	20
Section Marks:	20

Sub-Section Number:	1
Sub-Section Id:	5459273055
Question Shuffling Allowed :	Yes

Question Number : 121 Question Id : 54592751429 Question Type : MCQ Option Shuffling : Yes
Correct Marks : 1 Wrong Marks : 0.25

A sentence has been given with a blank to be filled with an appropriate word. Choose the correct alternative.

She did not _____ me coming.

Options :

1. ✘ saw
2. ✘ seen
3. ✔ see
4. ✘ seeing

Question Number : 121 Question Id : 54592751429 Question Type : MCQ Option Shuffling : Yes
Correct Marks : 1 Wrong Marks : 0.25

A sentence has been given with a blank to be filled with an appropriate word. Choose the correct alternative.

She did not _____ me coming.

Options :

1. ✘ saw

2. ✖ seen

3. ✔ see

4. ✖ seeing

Question Number : 122 Question Id : 54592751430 Question Type : MCQ Option Shuffling : Yes
Correct Marks : 1 Wrong Marks : 0.25

A sentence has been given with a blank to be filled with an appropriate word. Choose the correct alternative.

Rohan is 5 _____ than Seeta.

Options :

1. ✖ years elder

2. ✖ year older

3. ✔ years older

4. ✖ year elder

Question Number : 122 Question Id : 54592751430 Question Type : MCQ Option Shuffling : Yes
Correct Marks : 1 Wrong Marks : 0.25

A sentence has been given with a blank to be filled with an appropriate word. Choose the correct alternative.

Rohan is 5 _____ than Seeta.

Options :

1. ✖ years elder

2. ✖ year older

3. ✔ years older

4. ✖ year elder

Question Number : 123 Question Id : 54592751431 Question Type : MCQ Option Shuffling : Yes
Correct Marks : 1 Wrong Marks : 0.25

A sentence has been given with a blank to be filled with an appropriate word. Choose the correct alternative.

I _____ anything from her for months.

Options :

1. ✓ have not heard
2. ✗ had not heard
3. ✗ did not hear
4. ✗ did not heard

Question Number : 123 Question Id : 54592751431 Question Type : MCQ Option Shuffling : Yes
Correct Marks : 1 Wrong Marks : 0.25

A sentence has been given with a blank to be filled with an appropriate word. Choose the correct alternative.

I _____ anything from her for months.

Options :

1. ✓ have not heard
2. ✗ had not heard
3. ✗ did not hear
4. ✗ did not heard

Question Number : 124 Question Id : 54592751432 Question Type : MCQ Option Shuffling : Yes
Correct Marks : 1 Wrong Marks : 0.25

A sentence has been given with a blank to be filled with an appropriate word. Choose the correct alternative.

I waited for her _____ 7 in the evening.

Options :

1. ✗ as far as

2. ✖ as long as

3. ✖ upto

4. ✔ untill

Question Number : 124 Question Id : 54592751432 Question Type : MCQ Option Shuffling : Yes
Correct Marks : 1 Wrong Marks : 0.25

A sentence has been given with a blank to be filled with an appropriate word. Choose the correct alternative.

I waited for her _____ 7 in the evening.

Options :

1. ✖ as far as

2. ✖ as long as

3. ✖ upto

4. ✔ untill

Question Number : 125 Question Id : 54592751433 Question Type : MCQ Option Shuffling : Yes
Correct Marks : 1 Wrong Marks : 0.25

A sentence has been given with a blank to be filled with an appropriate word. Choose the correct alternative.

Ruchika _____ her car next week.

Options :

1. ✔ will have repaired

2. ✖ had repaired

3. ✖ had had repaired

4. ✖ should have repaired

Question Number : 125 Question Id : 54592751433 Question Type : MCQ Option Shuffling : Yes
Correct Marks : 1 Wrong Marks : 0.25

A sentence has been given with a blank to be filled with an appropriate word. Choose the correct alternative.

Ruchika _____ her car next week.

Options :

1. ✓ will have repaired
2. ✗ had repaired
3. ✗ had had repaired
4. ✗ should have repaired

Question Number : 126 Question Id : 54592751434 Question Type : MCQ Option Shuffling : Yes
Correct Marks : 1 Wrong Marks : 0.25

A sentence has been given with a blank to be filled with an appropriate word. Choose the correct alternative.

Summer has set _____.

Options :

1. ✓ in
2. ✗ about
3. ✗ up
4. ✗ on

Question Number : 126 Question Id : 54592751434 Question Type : MCQ Option Shuffling : Yes
Correct Marks : 1 Wrong Marks : 0.25

A sentence has been given with a blank to be filled with an appropriate word. Choose the correct alternative.

Summer has set _____.

Options :

1. ✓ in

2. ✗ about

3. ✗ up

4. ✗ on

Question Number : 127 Question Id : 54592751435 Question Type : MCQ Option Shuffling : Yes
Correct Marks : 1 Wrong Marks : 0.25

Choose a sentence that contains an error.

- (1) Aman gave a present to his wife.
- (2) The carpets are wet as they were washed.
- (3) The servant was talking to the grocer.
- (4) We intend to staying there for a week.

Options :

1. ✗ 1

2. ✗ 2

3. ✗ 3

4. ✓ 4

Question Number : 127 Question Id : 54592751435 Question Type : MCQ Option Shuffling : Yes
Correct Marks : 1 Wrong Marks : 0.25

Choose a sentence that contains an error.

- (1) Aman gave a present to his wife.
- (2) The carpets are wet as they were washed.
- (3) The servant was talking to the grocer.
- (4) We intend to staying there for a week.

Options :

1. ✗ 1

2. ✖ 2

3. ✖ 3

4. ✔ 4

Question Number : 128 Question Id : 54592751436 Question Type : MCQ Option Shuffling : Yes
Correct Marks : 1 Wrong Marks : 0.25

Choose a sentence that contains an error.

- (1) They were stupid to forget the tickets.
- (2) She was kind to help us.
- (3) He was rude to say that.
- (4) Ajay is silly to said such things.

Options :

1. ✖ 1

2. ✖ 2

3. ✖ 3

4. ✔ 4

Question Number : 128 Question Id : 54592751436 Question Type : MCQ Option Shuffling : Yes
Correct Marks : 1 Wrong Marks : 0.25

Choose a sentence that contains an error.

- (1) They were stupid to forget the tickets.
- (2) She was kind to help us.
- (3) He was rude to say that.
- (4) Ajay is silly to said such things.

Options :

1. ✖ 1

2. ✖ 2

3. ✖ 3

4. ✔ 4

Question Number : 129 Question Id : 54592751437 Question Type : MCQ Option Shuffling : Yes

Correct Marks : 1 Wrong Marks : 0.25

Find the part of the given sentence that has an error in it. If there is no error, choose 'No error'.

We enjoyed watching (1)/ the clown performed (2)/ the tricks (3)/. No error (4)

Options :

1. ✖ 1

2. ✔ 2

3. ✖ 3

4. ✖ 4

Question Number : 129 Question Id : 54592751437 Question Type : MCQ Option Shuffling : Yes

Correct Marks : 1 Wrong Marks : 0.25

Find the part of the given sentence that has an error in it. If there is no error, choose 'No error'.

We enjoyed watching (1)/ the clown performed (2)/ the tricks (3)/. No error (4)

Options :

1. ✖ 1

2. ✔ 2

3. ✖ 3

4. ✖ 4

Question Number : 130 Question Id : 54592751438 Question Type : MCQ Option Shuffling : Yes
Correct Marks : 1 Wrong Marks : 0.25

In the following question, out of the given four alternatives, select the alternative which best expresses the meaning of the Idiom/Phrase.

Chicken-hearted

Options :

1. ✖ A very easy matter
2. ✔ Not courageous
3. ✖ To dream of big things about the future
4. ✖ Species of an animal

Question Number : 130 Question Id : 54592751438 Question Type : MCQ Option Shuffling : Yes
Correct Marks : 1 Wrong Marks : 0.25

In the following question, out of the given four alternatives, select the alternative which best expresses the meaning of the Idiom/Phrase.

Chicken-hearted

Options :

1. ✖ A very easy matter
2. ✔ Not courageous
3. ✖ To dream of big things about the future
4. ✖ Species of an animal

Question Number : 131 Question Id : 54592751439 Question Type : MCQ Option Shuffling : Yes
Correct Marks : 1 Wrong Marks : 0.25

Choose the word that can substitute the given sentence.

A person of intellectual or erudite tastes

Options :

1. ✖ Belligerent
2. ✖ Crusader
3. ✔ Highbrow
4. ✖ Iconoclast

Question Number : 131 Question Id : 54592751439 Question Type : MCQ Option Shuffling : Yes

Correct Marks : 1 Wrong Marks : 0.25

Choose the word that can substitute the given sentence.

A person of intellectual or erudite tastes

Options :

1. ✖ Belligerent
2. ✖ Crusader
3. ✔ Highbrow
4. ✖ Iconoclast

Question Number : 132 Question Id : 54592751440 Question Type : MCQ Option Shuffling : Yes

Correct Marks : 1 Wrong Marks : 0.25

Choose the word that can substitute the given sentence.

The therapeutic use of sunlight

Options :

1. ✖ Balneotherapy
2. ✖ Radiotherapy
3. ✔ Heliotherapy

4. ✖ Hypnotherapy

Question Number : 132 Question Id : 54592751440 Question Type : MCQ Option Shuffling : Yes

Correct Marks : 1 Wrong Marks : 0.25

Choose the word that can substitute the given sentence.

The therapeutic use of sunlight

Options :

1. ✖ Balneotherapy

2. ✖ Radiotherapy

3. ✔ Heliotherapy

4. ✖ Hypnotherapy

Question Number : 133 Question Id : 54592751441 Question Type : MCQ Option Shuffling : Yes

Correct Marks : 1 Wrong Marks : 0.25

Choose the word that can substitute the given sentence.

An emotional disorder characterized by an obsessive desire to lose weight by refusing to eat

Options :

1. ✖ Dyslexia

2. ✔ Anorexia

3. ✖ Amyxia

4. ✖ Rhexia

Question Number : 133 Question Id : 54592751441 Question Type : MCQ Option Shuffling : Yes

Correct Marks : 1 Wrong Marks : 0.25

Choose the word that can substitute the given sentence.

An emotional disorder characterized by an obsessive desire to lose weight by refusing to eat

Options :

1. ✘ Dyslexia
2. ✔ Anorexia
3. ✘ Amyxia
4. ✘ Rhexia

Question Number : 134 Question Id : 54592751442 Question Type : MCQ Option Shuffling : Yes

Correct Marks : 1 Wrong Marks : 0.25

Rearrange the parts of the sentence in correct order.

If one wishes to study

P: traditional Ayurvedic medicine, one will

Q: traditions in the south India

R: discover the most authentic

Options :

1. ✔ PRQ
2. ✘ RPQ
3. ✘ QPR
4. ✘ QRP

Question Number : 134 Question Id : 54592751442 Question Type : MCQ Option Shuffling : Yes

Correct Marks : 1 Wrong Marks : 0.25

Rearrange the parts of the sentence in correct order.

If one wishes to study

P: traditional Ayurvedic medicine, one will

Q: traditions in the south India

R: discover the most authentic

Options :

1. ✓ PRQ

2. ✗ RPQ

3. ✗ QPR

4. ✗ QRP

Question Number : 135 Question Id : 54592751443 Question Type : MCQ Option Shuffling : Yes

Correct Marks : 1 Wrong Marks : 0.25

In the given question, four words are given out of which one word is correctly spelt. Choose the correctly spelt word.

Options :

1. ✗ Meetre

2. ✗ Mettre

3. ✓ Metre

4. ✗ Metree

Question Number : 135 Question Id : 54592751443 Question Type : MCQ Option Shuffling : Yes

Correct Marks : 1 Wrong Marks : 0.25

In the given question, four words are given out of which one word is correctly spelt. Choose the correctly spelt word.

Options :

1. ✗ Meetre

2. ✖ Mettre

3. ✔ Metre

4. ✖ Metree

Question Number : 136 Question Id : 54592751444 Question Type : MCQ Option Shuffling : Yes
Correct Marks : 1 Wrong Marks : 0.25

Choose the word that means the same as the given word.

DEVIATION

Options :

1. ✔ aberration

2. ✖ allegiance

3. ✖ normality

4. ✖ regularity

Question Number : 136 Question Id : 54592751444 Question Type : MCQ Option Shuffling : Yes
Correct Marks : 1 Wrong Marks : 0.25

Choose the word that means the same as the given word.

DEVIATION

Options :

1. ✔ aberration

2. ✖ allegiance

3. ✖ normality

4. ✖ regularity

Question Number : 137 Question Id : 54592751445 Question Type : MCQ Option Shuffling : Yes
Correct Marks : 1 Wrong Marks : 0.25

Choose an odd one out:

Options :

1. ✖ liberal
2. ✖ tolerant
3. ✖ biased
4. ✔ delusion

Question Number : 137 Question Id : 54592751445 Question Type : MCQ Option Shuffling : Yes
Correct Marks : 1 Wrong Marks : 0.25

Choose an odd one out:

Options :

1. ✖ liberal
2. ✖ tolerant
3. ✖ biased
4. ✔ delusion

Question Number : 138 Question Id : 54592751446 Question Type : MCQ Option Shuffling : Yes
Correct Marks : 1 Wrong Marks : 0.25

Choose the word that means the same as the given word.

VIOLENT

Options :

1. ✖ harmonious
2. ✖ peaceful
3. ✔ tumultuous
4. ✖ temporal

Question Number : 138 Question Id : 54592751446 Question Type : MCQ Option Shuffling : Yes
Correct Marks : 1 Wrong Marks : 0.25

Choose the word that means the same as the given word.

VIOLENT

Options :

1. ✖ harmonious
2. ✖ peaceful
3. ✔ tumultuous
4. ✖ temporal

Question Number : 139 Question Id : 54592751447 Question Type : MCQ Option Shuffling : Yes
Correct Marks : 1 Wrong Marks : 0.25

Improve the bracketed part of the sentence.

You cannot pass (unless) you study.

Options :

1. ✖ provided
2. ✖ as long as
3. ✖ less
4. ✔ No Improvement

Question Number : 139 Question Id : 54592751447 Question Type : MCQ Option Shuffling : Yes
Correct Marks : 1 Wrong Marks : 0.25

Improve the bracketed part of the sentence.

You cannot pass (unless) you study.

Options :

1. ✖ provided
2. ✖ as long as
3. ✖ less
4. ✔ No Improvement

Question Number : 140 Question Id : 54592751448 Question Type : MCQ Option Shuffling : Yes
Correct Marks : 1 Wrong Marks : 0.25

Improve the bracketed part of the sentence.

The girls were (pulled down) by the car.

Options :

1. ✓ knocked down
2. ✗ turned down
3. ✗ turned away
4. ✗ No Improvement

Question Number : 140 Question Id : 54592751448 Question Type : MCQ Option Shuffling : Yes

Correct Marks : 1 Wrong Marks : 0.25

Improve the bracketed part of the sentence.

The girls were (pulled down) by the car.

Options :

1. ✓ knocked down
2. ✗ turned down
3. ✗ turned away
4. ✗ No Improvement

General English2

Group Number :	8
Group Id :	5459272548
Group Maximum Duration :	0
Group Minimum Duration :	0
Show Attended Group? :	No
Edit Attended Group? :	No
Break time:	0
Group Marks:	20
Is this Group for Examiner?:	No
Revisit allowed for group Instructions? :	Yes
Maximum Instruction Time:	0
Minimum Instruction Time:	0

General English2

Section Id :	5459272548
Section Number :	1
Section type :	Online
Mandatory or Optional:	Mandatory
Number of Questions:	16
Number of Questions to be attempted:	16
Section Marks:	20

Sub-Section Number:	1
Sub-Section Id:	5459273056
Question Shuffling Allowed :	Yes

Question Number : 141 Question Id : 54592751449 Question Type : MCQ Option Shuffling : Yes
Correct Marks : 1 Wrong Marks : 0.25

Improve the bracketed part of the sentence.

Sonali shall have finished this painting (till tomorrow).

Options :

1. ✖ until tomorrow
2. ✖ onto tomorrow
3. ✔ by tomorrow
4. ✖ No Improvement

Question Number : 141 Question Id : 54592751449 Question Type : MCQ Option Shuffling : Yes
Correct Marks : 1 Wrong Marks : 0.25

Improve the bracketed part of the sentence.

Sonali shall have finished this painting (till tomorrow).

Options :

1. ✖ until tomorrow
2. ✖ onto tomorrow
3. ✔ by tomorrow
4. ✖ No Improvement

Question Number : 142 Question Id : 54592751450 Question Type : MCQ Option Shuffling : Yes

Correct Marks : 1 Wrong Marks : 0.25

A sentence has been given with a blank to be filled with an appropriate word. Choose the correct alternative.

Once _____ a time, there lived a king.

Options :

1. ✓ upon
2. ✗ about
3. ✗ in
4. ✗ at

Question Number : 142 Question Id : 54592751450 Question Type : MCQ Option Shuffling : Yes

Correct Marks : 1 Wrong Marks : 0.25

A sentence has been given with a blank to be filled with an appropriate word. Choose the correct alternative.

Once _____ a time, there lived a king.

Options :

1. ✓ upon
2. ✗ about
3. ✗ in
4. ✗ at

Question Number : 143 Question Id : 54592751451 Question Type : MCQ Option Shuffling : Yes

Correct Marks : 1 Wrong Marks : 0.25

Find the part of the given sentence that has an error in it. If there is no error, choose 'No error'.

Kusum found (1)/ her lost watch (2)/ of the cupboard (3)/. No error (4)

Options :

1. ✖ 1

2. ✖ 2

3. ✔ 3

4. ✖ 4

Question Number : 143 Question Id : 54592751451 Question Type : MCQ Option Shuffling : Yes

Correct Marks : 1 Wrong Marks : 0.25

Find the part of the given sentence that has an error in it. If there is no error, choose 'No error'.

Kusum found (1)/ her lost watch (2)/ of the cupboard (3)/. No error (4)

Options :

1. ✖ 1

2. ✖ 2

3. ✔ 3

4. ✖ 4

Question Number : 144 Question Id : 54592751452 Question Type : MCQ Option Shuffling : Yes

Correct Marks : 1 Wrong Marks : 0.25

Choose an idiom which means:

The ball is in your court

Options :

1. ✖ To bend backwards
2. ✔ The next action is from your side
3. ✖ To burn the midnight oil
4. ✖ To the bitter end

Question Number : 144 Question Id : 54592751452 Question Type : MCQ Option Shuffling : Yes
Correct Marks : 1 Wrong Marks : 0.25

Choose an idiom which means:

The ball is in your court

Options :

1. ✖ To bend backwards
2. ✔ The next action is from your side
3. ✖ To burn the midnight oil
4. ✖ To the bitter end

Question Number : 145 Question Id : 54592751453 Question Type : MCQ Option Shuffling : Yes
Correct Marks : 1 Wrong Marks : 0.25

Rearrange the parts of the sentence in correct order.

Eating sour

P: cause acidity

Q: lying down may

R: foods just before

Options :

1. ✖ QRP
2. ✖ PRQ
3. ✔ RQP
4. ✖ PQR

Question Number : 145 Question Id : 54592751453 Question Type : MCQ Option Shuffling : Yes

Correct Marks : 1 Wrong Marks : 0.25

Rearrange the parts of the sentence in correct order.

Eating sour

P: cause acidity

Q: lying down may

R: foods just before

Options :

1. ✘ QRP

2. ✘ PRQ

3. ✔ RQP

4. ✘ PQR

Question Number : 146 Question Id : 54592751454 Question Type : MCQ Option Shuffling : Yes

Correct Marks : 1 Wrong Marks : 0.25

In the given question, four words are given out of which one word is correctly spelt. Choose the correctly spelt word

Options :

1. ✘ Teachur

2. ✔ Teacher

3. ✘ Teecher

4. ✘ Taccher

Question Number : 146 Question Id : 54592751454 Question Type : MCQ Option Shuffling : Yes

Correct Marks : 1 Wrong Marks : 0.25

In the given question, four words are given out of which one word is correctly spelt. Choose the correctly spelt word

Options :

1. ✖ Teachur

2. ✔ Teacher

3. ✖ Teecher

4. ✖ Taccher

Question Number : 147 Question Id : 54592751455 Question Type : MCQ Option Shuffling : Yes
Correct Marks : 1 Wrong Marks : 0.25

Which of the following is Not a synonym-antonym pair?

Options :

1. ✖ opaque – clear

2. ✖ boycott – defend

3. ✔ ruin – devastate

4. ✖ pollute – sanctify

Question Number : 147 Question Id : 54592751455 Question Type : MCQ Option Shuffling : Yes
Correct Marks : 1 Wrong Marks : 0.25

Which of the following is Not a synonym-antonym pair?

Options :

1. ✖ opaque - clear

2. ✖ boycott - defend

3. ✔ ruin - devastate

4. ✖ pollute - sanctify

Question Number : 148 Question Id : 54592751456 Question Type : MCQ Option Shuffling : Yes
Correct Marks : 1 Wrong Marks : 0.25

Improve the bracketed part of the sentence.

It she (wants), she can come.

Options :

1. ✖ wanted

2. ✖ had wanted

3. ✖ will want

4. ✔ No Improvement

Question Number : 148 Question Id : 54592751456 Question Type : MCQ Option Shuffling : Yes
Correct Marks : 1 Wrong Marks : 0.25

Improve the bracketed part of the sentence.

It she (wants), she can come.

Options :

1. ✖ wanted

2. ✖ had wanted

3. ✖ will want

4. ✔ No Improvement

Question Number : 149 Question Id : 54592751457 Question Type : MCQ Option Shuffling : Yes
Correct Marks : 1 Wrong Marks : 0.25

A sentence has been given with a blank to be filled with an appropriate word. Choose the correct alternative.

He is _____ European.

Options :

1. ✔ a

2. ✖ an

3. ✖ the

4. ✖ one

Question Number : 149 Question Id : 54592751457 Question Type : MCQ Option Shuffling : Yes
Correct Marks : 1 Wrong Marks : 0.25

A sentence has been given with a blank to be filled with an appropriate word. Choose the correct alternative.

He is _____ European.

Options :

1. ✓ a
2. ✗ an
3. ✗ the
4. ✗ one

Question Number : 150 Question Id : 54592751458 Question Type : MCQ Option Shuffling : Yes
Correct Marks : 1 Wrong Marks : 0.25

Find the part of the given sentence that has an error in it. If there is no error, choose 'No error'.

I'm afraid (1)/ that something serious (2)/ may happens (3)/.
No error (4)

Options :

1. ✗ 1
2. ✗ 2
3. ✓ 3
4. ✗ 4

Question Number : 150 Question Id : 54592751458 Question Type : MCQ Option Shuffling : Yes
Correct Marks : 1 Wrong Marks : 0.25

Find the part of the given sentence that has an error in it.
If there is no error, choose 'No error'.

I'm afraid (1)/ that something serious (2)/ may happens (3)/.
No error (4)

Options :

1. ✖ 1

2. ✖ 2

3. ✔ 3

4. ✖ 4

Question Number : 151 Question Id : 54592751459 Question Type : MCQ Option Shuffling : Yes

Correct Marks : 1 Wrong Marks : 0.25

In the following question, out of the given four alternatives, select the alternative which best expresses the meaning of the Idiom/Phrase.

Fit as a fiddle

Options :

1. ✖ A bad company

2. ✔ In a perfectly healthy condition

3. ✖ A poor point

4. ✖ To be humble and beg

Question Number : 151 Question Id : 54592751459 Question Type : MCQ Option Shuffling : Yes

Correct Marks : 1 Wrong Marks : 0.25

In the following question, out of the given four alternatives, select the alternative which best expresses the meaning of the Idiom/Phrase.

Fit as a fiddle

Options :

1. ✖ A bad company
2. ✔ In a perfectly healthy condition
3. ✖ A poor point
4. ✖ To be humble and beg

Question Number : 152 Question Id : 54592751460 Question Type : MCQ Option Shuffling : Yes

Correct Marks : 1 Wrong Marks : 0.25

Rearrange the parts of the sentence in correct order.

Youth in lower

P: time with their families

Q: more inclined to spend

R: socio-economic classes are

Options :

1. ✔ RQP
2. ✖ RPQ
3. ✖ QRP
4. ✖ PQR

Question Number : 152 Question Id : 54592751460 Question Type : MCQ Option Shuffling : Yes

Correct Marks : 1 Wrong Marks : 0.25

Rearrange the parts of the sentence in correct order.

Youth in lower

P: time with their families

Q: more inclined to spend

R: socio-economic classes are

Options :

1. ✓ RQP

2. ✗ RPQ

3. ✗ QRP

4. ✗ PQR

Question Number : 153 Question Id : 54592751461 Question Type : MCQ Option Shuffling : Yes

Correct Marks : 1 Wrong Marks : 0.25

In the given question, four words are given out of which one word is correctly spelt. Choose the correctly spelt word.

Options :

1. ✓ Beautiful

2. ✗ Butiful

3. ✗ Beutiful

4. ✗ Beautifull

Question Number : 153 Question Id : 54592751461 Question Type : MCQ Option Shuffling : Yes

Correct Marks : 1 Wrong Marks : 0.25

In the given question, four words are given out of which one word is correctly spelt. Choose the correctly spelt word.

Options :

1. ✓ Beautiful

2. ✖ Butiful
3. ✖ Beutiful
4. ✖ Beautifull

Question Number : 154 Question Id : 54592751462 Question Type : MCQ Option Shuffling : Yes
Correct Marks : 1 Wrong Marks : 0.25

Choose the word that means the same as the given word.

CAPTIVATE

Options :

1. ✔ fascinate
2. ✖ offend
3. ✖ disillusion
4. ✖ praise

Question Number : 154 Question Id : 54592751462 Question Type : MCQ Option Shuffling : Yes
Correct Marks : 1 Wrong Marks : 0.25

Choose the word that means the same as the given word.

CAPTIVATE

Options :

1. ✔ fascinate
2. ✖ offend
3. ✖ disillusion
4. ✖ praise

Question Number : 155 Question Id : 54592751463 Question Type : MCQ Option Shuffling : Yes
Correct Marks : 1 Wrong Marks : 0.25

Improve the bracketed part of the sentence.

The Earthquake victims (suffered of) cholera.

Options :

1. ✖ suffered in
2. ✔ suffered from
3. ✖ suffered within
4. ✖ No Improvement

Question Number : 155 Question Id : 54592751463 Question Type : MCQ Option Shuffling : Yes
Correct Marks : 1 Wrong Marks : 0.25

Improve the bracketed part of the sentence.

The Earthquake victims (suffered of) cholera.

Options :

1. ✖ suffered in
2. ✔ suffered from
3. ✖ suffered within
4. ✖ No Improvement

Sub-Section Number:	2
Sub-Section Id:	5459273057
Question Shuffling Allowed :	Yes

Question Id : 54592751464 Question Type : COMPREHENSION Sub Question Shuffling Allowed : Yes Group Comprehension Questions : No

Question Numbers : (156 to 160)

Question Label : Comprehension

Read the following information carefully and answer the given questions.

‘Mental health’ is sometimes misunderstood as mental ill-health or illness. However, the absence of mental health does not necessarily mean the presence of mental illness.

Similarly, if someone has a mental illness, this does not mean a complete absence of mental health. Mental health is related to social and emotional wellbeing of individuals and communities. Having a good mental health, is more than just the absence of illness. It’s a state of overall wellbeing. It generally means having the ability to enjoy life; to cope with and ‘bounce back’ from stress and sadness; to be able to set and fulfill goals; having the capacity to build and maintain relationships. To put in simply, the term ‘social and emotional wellbeing’ describes it well.

Mental ill-health affects all of us. The term ‘mental ill-health’ is often used as an umbrella term that includes both mental illness and mental health problems. A mental illness is a disorder diagnosed by a medical professional that interferes with an individual’s cognitive, emotional or social abilities. A mental health problem also interferes with a person’s cognitive, emotional or social abilities, but may not meet the criteria for a diagnosed mental illness. Mental health problems often occur as a result of stress, and are usually less severe and of shorter duration. However, if mental health problems persist or increase in severity, they may develop into a mental illness. We need to focus on prevention if want to make a difference. However, the majority of funding continues to be concentrated in downstream interventions targeted at treating mental illness once it has become severe. Prevention-focused approaches are more cost-effective than treatment approaches, because mental illnesses cannot be dealt with by only treating one individual at a time. Investing in the prevention of mental ill-health leads to a more efficient use of mental health resources.

Sub questions

Question Number : 156 Question Id : 54592751465 Question Type : MCQ Option Shuffling : Yes
Correct Marks : 1 Wrong Marks : 0.25

Mental health refers to:

- I. Absence of mental illnesses.
- II. Social and emotional well-being.
- III. To be able to enjoy life.
- IV. To be able to cope up with stressors.

Options :

- 1. ✖ I, II and IV
- 2. ✖ I, II and III
- 3. ✖ II and IV
- 4. ✔ II, III and IV

Question Number : 157 Question Id : 54592751466 Question Type : MCQ Option Shuffling : Yes
Correct Marks : 1 Wrong Marks : 0.25

What is a cost-effective way to promote mental health according to the author?

Options :

- 1. ✖ Targeting mental illnesses and trying to treat them at an early stage.
- 2. ✔ Investing in the prevention of mental illnesses.
- 3. ✖ Setting up more hospitals dealing with mental illnesses.
- 4. ✖ Studying the impacts of mental illnesses on mental health

Question Number : 158 Question Id : 54592751467 Question Type : MCQ Option Shuffling : Yes
Correct Marks : 1 Wrong Marks : 0.25

What does 'umbrella term' mean in the passage?

Options :

- 1. ✔ Term used to cover a broad number of items that all fall under a single common category.

2. * Term used to negate the presence of any other item within the same category.

3. * Term which describes the relationship between two things.

4. * Term that defines a particular category.

Question Number : 159 Question Id : 54592751468 Question Type : MCQ Option Shuffling : Yes

Correct Marks : 1 Wrong Marks : 0.25

Which statement is correct about mental health and mental illness?

Options :

1. * Mental illness interferes with a person's cognitive, emotional or social abilities whereas mental health problem does not.

2. ✓ Mental health problems are shorter and less severe than mental illnesses.

3. * Mental health problems always develop into mental illnesses.

4. * Preventing mental ill-health is not possible and one should accept it and try to seek timely treatment.

Question Number : 160 Question Id : 54592751469 Question Type : MCQ Option Shuffling : Yes

Correct Marks : 1 Wrong Marks : 0.25

What does the author mean by 'downstream interventions'?

Options :

1. * Approaches that have the potential to affect large populations.

2. * Approaches that consider mental illnesses severe.

3. ✓ Individual-level behavioral approaches for disease management.

4. * Treating mental illnesses using intervening treatments.

Question Id : 54592751464 Question Type : COMPREHENSION Sub Question Shuffling Allowed : Yes Group Comprehension Questions : No

Question Numbers : (156 to 160)

Question Label : Comprehension

Read the following information carefully and answer the given questions.

'Mental health' is sometimes misunderstood as mental ill-health or illness. However, the absence of mental health does not necessarily mean the presence of mental illness. Similarly, if someone has a mental illness, this does not mean a complete absence of mental health. Mental health is related to social and emotional wellbeing of individuals and communities. Having a good mental health, is more than just the absence of illness. It's a state of overall wellbeing. It generally means having the ability to enjoy life; to cope with and 'bounce back' from stress and sadness; to be able to set and fulfill goals; having the capacity to build and maintain relationships. To put in simply, the term 'social and emotional wellbeing' describes it well.

Mental ill-health affects all of us. The term 'mental ill-health' is often used as an umbrella term that includes both mental illness and mental health problems. A mental illness is a disorder diagnosed by a medical professional that interferes with an individual's cognitive, emotional or social abilities. A mental health problem also interferes with a person's cognitive, emotional or social abilities, but may not meet the criteria for a diagnosed mental illness. Mental health problems often occur as a result of stress, and are usually less severe and of shorter duration. However, if mental health problems persist or increase in severity, they may develop into a mental illness. We need to focus on prevention if want to make a difference. However, the majority of funding continues to be concentrated in downstream interventions targeted at treating mental illness once it has become severe. Prevention-focused approaches are more cost-effective than treatment approaches, because mental illnesses cannot be dealt with by only treating one individual at a time. Investing in the prevention of mental ill-health leads to a more efficient use of mental health resources.

Sub questions

Question Number : 156 Question Id : 54592751465 Question Type : MCQ Option Shuffling : Yes
Correct Marks : 1 Wrong Marks : 0.25

Mental health refers to:

- I. Absence of mental illnesses.
- II. Social and emotional well-being.
- III. To be able to enjoy life.
- IV. To be able to cope up with stressors.

Options :

- 1. ✘ I, II and IV
- 2. ✘ I, II and III
- 3. ✘ II and IV
- 4. ✔ II, III and IV

Question Number : 157 Question Id : 54592751466 Question Type : MCQ Option Shuffling : Yes
Correct Marks : 1 Wrong Marks : 0.25

What is a cost-effective way to promote mental health according to the author?

Options :

- 1. ✘ Targeting mental illnesses and trying to treat them at an early stage.
- 2. ✔ Investing in the prevention of mental illnesses.
- 3. ✘ Setting up more hospitals dealing with mental illnesses.
- 4. ✘ Studying the impacts of mental illnesses on mental health

Question Number : 158 Question Id : 54592751467 Question Type : MCQ Option Shuffling : Yes

Correct Marks : 1 Wrong Marks : 0.25

What does 'umbrella term' mean in the passage?

Options :

1. ✓ Term used to cover a broad number of items that all fall under a single common category.
2. ✗ Term used to negate the presence of any other item within the same category.
3. ✗ Term which describes the relationship between two things.
4. ✗ Term that defines a particular category.

Question Number : 159 Question Id : 54592751468 Question Type : MCQ Option Shuffling : Yes

Correct Marks : 1 Wrong Marks : 0.25

Which statement is correct about mental health and mental illness?

Options :

1. ✗ Mental illness interferes with a person's cognitive, emotional or social abilities whereas mental health problem does not.
2. ✓ Mental health problems are shorter and less severe than mental illnesses.
3. ✗ Mental health problems always develop into mental illnesses.
4. ✗ Preventing mental ill-health is not possible and one should accept it and try to seek timely treatment.

Question Number : 160 Question Id : 54592751469 Question Type : MCQ Option Shuffling : Yes

Correct Marks : 1 Wrong Marks : 0.25

What does the author mean by 'downstream interventions'?

Options :

1. ✖ Approaches that have the potential to affect large populations.
2. ✖ Approaches that consider mental illnesses severe.
3. ✔ Individual-level behavioural approaches for disease management.
4. ✖ Treating mental illnesses using intervening treatments.

General Hindi1

Group Number :	9
Group Id :	5459272549
Group Maximum Duration :	0
Group Minimum Duration :	0
Show Attended Group? :	No
Edit Attended Group? :	No
Break time:	0
Group Marks:	20
Is this Group for Examiner?:	No
Revisit allowed for group Instructions? :	Yes
Maximum Instruction Time:	0
Minimum Instruction Time:	0

General Hindi1

Section Id :	5459272549
Section Number :	1
Section type :	Online
Mandatory or Optional:	Mandatory
Number of Questions:	20
Number of Questions to be attempted:	20
Section Marks:	20

Sub-Section Number:	1
Sub-Section Id:	5459273058
Question Shuffling Allowed :	Yes

Correct Marks : 1 Wrong Marks : 0.25

दिए गए शब्दों की संधि ज्ञात कीजिए।

प्रति + अंचा

Options :

1. ✓ प्रत्यंचा
2. ✗ प्रतिअंचा
3. ✗ प्रत्यांचा
4. ✗ प्रतिंचा

Question Number : 161 Question Id : 54592751470 Question Type : MCQ Option Shuffling : Yes

Correct Marks : 1 Wrong Marks : 0.25

दिए गए शब्दों की संधि ज्ञात कीजिए।

प्रति + अंचा

Options :

1. ✓ प्रत्यंचा
2. ✗ प्रतिअंचा
3. ✗ प्रत्यांचा
4. ✗ प्रतिंचा

Question Number : 162 Question Id : 54592751471 Question Type : MCQ Option Shuffling : Yes

Correct Marks : 1 Wrong Marks : 0.25

दिए गए शब्द में प्रत्यय ज्ञात कीजिए।

अभागा

Options :

1. ✗ ई
2. ✗ अ
3. ✗ भाग

4. ✓ भागा

Question Number : 162 Question Id : 54592751471 Question Type : MCQ Option Shuffling : Yes
Correct Marks : 1 Wrong Marks : 0.25

दिए गए शब्द में प्रत्यय ज्ञात कीजिए।

अभागा

Options :

1. ✖ ई
2. ✖ अ
3. ✖ भाग
4. ✓ भागा

Question Number : 163 Question Id : 54592751472 Question Type : MCQ Option Shuffling : Yes
Correct Marks : 1 Wrong Marks : 0.25

निम्नलिखित में से कौन सा शब्द आना प्रत्यय का उदाहरण नहीं है?

Options :

1. ✖ सालाना
2. ✖ रोजाना
3. ✖ मेहनताना
4. ✓ अनारदाना

Question Number : 163 Question Id : 54592751472 Question Type : MCQ Option Shuffling : Yes
Correct Marks : 1 Wrong Marks : 0.25

निम्नलिखित में से कौन सा शब्द आना प्रत्यय का उदाहरण नहीं है?

Options :

1. ✖ सालाना
2. ✖ रोजाना
3. ✖ मेहनताना
4. ✓ अनारदाना

Question Number : 164 Question Id : 54592751473 Question Type : MCQ Option Shuffling : Yes
Correct Marks : 1 Wrong Marks : 0.25

निम्नलिखित में से कौन सा शब्द तत्सम शब्द है?

Note: For this question, discrepancy is found in question/answer. So, this question is ignored for all candidates.

Options :

1. कृषक
2. किसान
3. मित्र
4. खेतिहर

Question Number : 164 Question Id : 54592751473 Question Type : MCQ Option Shuffling : Yes
Correct Marks : 1 Wrong Marks : 0.25

निम्नलिखित में से कौन सा शब्द तत्सम शब्द है?

Note: For this question, discrepancy is found in question/answer. So, this question is ignored for all candidates.

Options :

1. कृषक
2. किसान
3. मित्र
4. खेतिहर

Question Number : 165 Question Id : 54592751474 Question Type : MCQ Option Shuffling : Yes
Correct Marks : 1 Wrong Marks : 0.25

संज्ञा, सर्वनाम, विशेषण आदि से बनने वाली क्रिया को क्या कहा जाता है?

Options :

1. ✓ नाधातु क्रिया
2. * अकर्मक क्रिया
3. * सकर्मक क्रिया
4. * अपूर्ण क्रिया

Question Number : 165 Question Id : 54592751474 Question Type : MCQ Option Shuffling : Yes
Correct Marks : 1 Wrong Marks : 0.25

संज्ञा, सर्वनाम, विशेषण आदि से बनने वाली क्रिया को क्या कहा जाता है?

Options :

1. ✓ नाधातु क्रिया
2. * अकर्मक क्रिया
3. * सकर्मक क्रिया
4. * अपूर्ण क्रिया

Question Number : 166 Question Id : 54592751475 Question Type : MCQ Option Shuffling : Yes
Correct Marks : 1 Wrong Marks : 0.25

दिए गए वाक्यांश के लिए उचित शब्द का चयन कीजिए।

अपना मतलब सिद्ध करने वाला

Options :

1. ✓ मतलबी
2. * सिद्धी
3. * सिद्धमतलब
4. * सिद्ध

Question Number : 166 Question Id : 54592751475 Question Type : MCQ Option Shuffling : Yes
Correct Marks : 1 Wrong Marks : 0.25

दिए गए वाक्यांश के लिए उचित शब्द का चयन कीजिए।

अपना मतलब सिद्ध करने वाला

Options :

1. ✓ मतलबी
2. * सिद्धी
3. * सिद्धमतलब
4. * सिद्ध

Question Number : 167 Question Id : 54592751476 Question Type : MCQ Option Shuffling : Yes
Correct Marks : 1 Wrong Marks : 0.25

दिए गए वाक्यांश के लिए उचित शब्द का चयन कीजिए।

दूसरों के दोष देखने वाला

Options :

1. * दोषी
2. * निर्दोषी
3. ✓ छिद्रान्वेषी
4. * अन्वेषी

Question Number : 167 Question Id : 54592751476 Question Type : MCQ Option Shuffling : Yes
Correct Marks : 1 Wrong Marks : 0.25

दिए गए वाक्यांश के लिए उचित शब्द का चयन कीजिए।

दूसरों के दोष देखने वाला

Options :

1. * दोषी
2. * निर्दोषी
3. ✓ छिद्रान्वेषी
4. * अन्वेषी

Question Number : 168 Question Id : 54592751477 Question Type : MCQ Option Shuffling : Yes
Correct Marks : 1 Wrong Marks : 0.25

दिए गए शब्द का विलोम शब्द ज्ञात कीजिए।

निर्भीक

Options :

1. * अभय
2. * भयहीन

3. ✖ निडर

4. ✔ डरपोक

Question Number : 168 Question Id : 54592751477 Question Type : MCQ Option Shuffling : Yes
Correct Marks : 1 Wrong Marks : 0.25

दिए गए शब्द का विलोम शब्द ज्ञात कीजिए।

निर्भीक

Options :

1. ✖ अभय

2. ✖ भयहीन

3. ✖ निडर

4. ✔ डरपोक

Question Number : 169 Question Id : 54592751478 Question Type : MCQ Option Shuffling : Yes
Correct Marks : 1 Wrong Marks : 0.25

दिए गए शब्द का पर्यायवाची ज्ञात कीजिए।

कलकंठी

Options :

1. ✖ सोमरस

2. ✔ श्यामा

3. ✖ अक्षि

4. ✖ तत्क्षण

Question Number : 169 Question Id : 54592751478 Question Type : MCQ Option Shuffling : Yes
Correct Marks : 1 Wrong Marks : 0.25

दिए गए शब्द का पर्यायवाची ज्ञात कीजिए।

कलकंठी

Options :

1. * सोमरस

2. ✓ श्यामा

3. * अक्षि

4. * तत्क्षण

Question Number : 170 Question Id : 54592751479 Question Type : MCQ Option Shuffling : Yes
Correct Marks : 1 Wrong Marks : 0.25

दिए गए शब्द युग्म का अर्थ ज्ञात कीजिए।

घन - धन

Options :

1. * सम्पति - बादल

2. * सम्पति - आकाश

3. ✓ बादल - सम्पति

4. * सम्पति - घर

Question Number : 170 Question Id : 54592751479 Question Type : MCQ Option Shuffling : Yes
Correct Marks : 1 Wrong Marks : 0.25

दिए गए शब्द युग्म का अर्थ ज्ञात कीजिए।

घन - धन

Options :

1. * सम्पति - बादल

2. * सम्पति - आकाश

3. ✓ बादल - सम्पति

4. * सम्पति - घर

Question Number : 171 Question Id : 54592751480 Question Type : MCQ Option Shuffling : Yes
Correct Marks : 1 Wrong Marks : 0.25

दिए गए वाक्य में उपयुक्त शब्द का चयन करके रिक्त स्थान की पूर्ति कीजिए।

सिंधु घाटी की सभ्यता का _____ भारत में हुआ था।

Options :

1. * मरण
2. ✓ जन्म
3. * खात्मा
4. * नुकसान

Question Number : 171 Question Id : 54592751480 Question Type : MCQ Option Shuffling : Yes

Correct Marks : 1 Wrong Marks : 0.25

दिए गए वाक्य में उपयुक्त शब्द का चयन करके रिक्त स्थान की पूर्ति कीजिए।

सिंधु घाटी की सभ्यता का _____ भारत में हुआ था।

Options :

1. * मरण
2. ✓ जन्म
3. * खात्मा
4. * नुकसान

Question Number : 172 Question Id : 54592751481 Question Type : MCQ Option Shuffling : Yes

Correct Marks : 1 Wrong Marks : 0.25

दिए गए वाक्य में उपयुक्त शब्द का चयन करके रिक्त स्थान की पूर्ति कीजिए।

दंडकारण्य में _____ का उत्पात मचा हुआ था।

Options :

1. * देवों
2. * सुरों
3. ✓ राक्षसों

4. * ब्राह्मणों

Question Number : 172 Question Id : 54592751481 Question Type : MCQ Option Shuffling : Yes
Correct Marks : 1 Wrong Marks : 0.25

दिए गए वाक्य में उपयुक्त शब्द का चयन करके रिक्त स्थान की पूर्ति कीजिए।

दंडकारण्य में _____ का उत्पात मचा हुआ था।

Options :

1. * देवों
2. * सुरों
3. ✓ राक्षसों
4. * ब्राह्मणों

Question Number : 173 Question Id : 54592751482 Question Type : MCQ Option Shuffling : Yes
Correct Marks : 1 Wrong Marks : 0.25

दिए गए वाक्यांश के लिए उचित शब्द का चयन कीजिए।

सेना का सबसे आगे रहने वाला भाग

Options :

1. * अग्र
2. * अग्रणी
3. * सर्वग
4. ✓ हराकल

Question Number : 173 Question Id : 54592751482 Question Type : MCQ Option Shuffling : Yes
Correct Marks : 1 Wrong Marks : 0.25

दिए गए वाक्यांश के लिए उचित शब्द का चयन कीजिए।

सेना का सबसे आगे रहने वाला भाग

Options :

1. ✖ अग्र
2. ✖ अग्रणी
3. ✖ सर्वग
4. ✔ हराकल

Question Number : 174 Question Id : 54592751483 Question Type : MCQ Option Shuffling : Yes
Correct Marks : 1 Wrong Marks : 0.25

दिए गए शब्द का समानार्थी शब्द ज्ञात कीजिए।

अधम

Options :

1. ✖ सुधा
2. ✖ दानव
3. ✔ तुच्छ
4. ✖ उस्ताद

Question Number : 174 Question Id : 54592751483 Question Type : MCQ Option Shuffling : Yes
Correct Marks : 1 Wrong Marks : 0.25

दिए गए शब्द का समानार्थी शब्द ज्ञात कीजिए।

अधम

Options :

1. ✖ सुधा
2. ✖ दानव
3. ✔ तुच्छ
4. ✖ उस्ताद

Question Number : 175 Question Id : 54592751484 Question Type : MCQ Option Shuffling : Yes
Correct Marks : 1 Wrong Marks : 0.25

दिए गए शब्द का समानार्थी शब्द ज्ञात कीजिए।

उद्यम

Options :

1. * वालिदा
2. ✓ यत्न
3. * संगी
4. * समूह

Question Number : 175 Question Id : 54592751484 Question Type : MCQ Option Shuffling : Yes
Correct Marks : 1 Wrong Marks : 0.25

दिए गए शब्द का समानार्थी शब्द ज्ञात कीजिए।

उद्यम

Options :

1. * वालिदा
2. ✓ यत्न
3. * संगी
4. * समूह

Question Number : 176 Question Id : 54592751485 Question Type : MCQ Option Shuffling : Yes
Correct Marks : 1 Wrong Marks : 0.25

दिए गए वाक्य में उचित परसर्ग का चयन करके रिक्त स्थान की पूर्ति कीजिए।

उस मूर्ति _____ टुकड़े - टुकड़े हो गए।

Options :

1. * से
2. ✓ के
3. * को
4. * ने

Question Number : 176 Question Id : 54592751485 Question Type : MCQ Option Shuffling : Yes

Correct Marks : 1 Wrong Marks : 0.25

दिए गए वाक्य में उचित परसर्ग का चयन करके रिक्त स्थान की पूर्ति कीजिए।

उस मूर्ति _____ टुकड़े - टुकड़े हो गए।

Options :

1. * से
2. ✓ के
3. * को
4. * ने

Question Number : 177 Question Id : 54592751486 Question Type : MCQ Option Shuffling : Yes

Correct Marks : 1 Wrong Marks : 0.25

दिए गए वाक्य में रेखांकित भाग का सही कारक ज्ञात कीजिए।

नदी पर्वत से निकलती है।

Options :

1. * संबंध बोधक
2. ✓ अपादान
3. * कर्ता
4. * कर्म

Question Number : 177 Question Id : 54592751486 Question Type : MCQ Option Shuffling : Yes

Correct Marks : 1 Wrong Marks : 0.25

दिए गए वाक्य में रेखांकित भाग का सही कारक ज्ञात कीजिए।

नदी पर्वत से निकलती है।

Options :

1. * संबंध बोधक

2. ✓ अपादान

3. ✘ कर्ता

4. ✘ कर्म

Question Number : 178 Question Id : 54592751487 Question Type : MCQ Option Shuffling : Yes
Correct Marks : 1 Wrong Marks : 0.25

दिए गए वाक्य में रेखांकित भाग का वचन ज्ञात कीजिए।

बालू गर्म हो गई है।

Options :

1. ✘ एकवचन

2. ✘ द्विवचन

3. ✓ बहुवचन

4. ✘ उकारांत

Question Number : 178 Question Id : 54592751487 Question Type : MCQ Option Shuffling : Yes
Correct Marks : 1 Wrong Marks : 0.25

दिए गए वाक्य में रेखांकित भाग का वचन ज्ञात कीजिए।

बालू गर्म हो गई है।

Options :

1. ✘ एकवचन

2. ✘ द्विवचन

3. ✓ बहुवचन

4. ✘ उकारांत

Question Number : 179 Question Id : 54592751488 Question Type : MCQ Option Shuffling : Yes
Correct Marks : 1 Wrong Marks : 0.25

दिए गए शब्द का बहुवचन ज्ञात कीजिए।

श्रीमती

Options :

1. * श्रीमतीयाँ
2. * श्रीमतियाँ
3. ✓ श्रीमतियों
4. * श्रीमती

Question Number : 179 Question Id : 54592751488 Question Type : MCQ Option Shuffling : Yes
Correct Marks : 1 Wrong Marks : 0.25

दिए गए शब्द का बहुवचन ज्ञात कीजिए।

श्रीमती

Options :

1. * श्रीमतीयाँ
2. * श्रीमतियाँ
3. ✓ श्रीमतियों
4. * श्रीमती

Question Number : 180 Question Id : 54592751489 Question Type : MCQ Option Shuffling : Yes
Correct Marks : 1 Wrong Marks : 0.25

निम्नलिखित में से कौन सा शब्द एकवचन नहीं है?

Options :

1. * दाम
2. ✓ ओठ
3. * तेल
4. * हरएक

Question Number : 180 Question Id : 54592751489 Question Type : MCQ Option Shuffling : Yes
Correct Marks : 1 Wrong Marks : 0.25

निम्नलिखित में से कौन सा शब्द एकवचन नहीं है?

Options :

1. ✖ दाम
2. ✔ ओठ
3. ✖ तेल
4. ✖ हरएक

General Hindi2

Group Number :	10
Group Id :	5459272550
Group Maximum Duration :	0
Group Minimum Duration :	120
Show Attended Group? :	No
Edit Attended Group? :	No
Break time:	0
Group Marks:	20
Is this Group for Examiner?:	No
Revisit allowed for group Instructions? :	Yes
Maximum Instruction Time:	0
Minimum Instruction Time:	0

General Hindi2

Section Id :	5459272550
Section Number :	1
Section type :	Online
Mandatory or Optional:	Mandatory
Number of Questions:	16
Number of Questions to be attempted:	16
Section Marks:	20

Sub-Section Number:	1
Sub-Section Id:	5459273059
Question Shuffling Allowed :	Yes

Question Number : 181 Question Id : 54592751490 Question Type : MCQ Option Shuffling : Yes
Correct Marks : 1 Wrong Marks : 0.25

दिए गए वाक्य का वह भाग ज्ञात करें जिसमें कोई त्रुटि है।

समाज का प्रत्येक व्यक्ति (1)/ मोबाइल के बिना (2)/ अपने आप अपाहिज-सा (3)/ महसूस करने लगता है (4)

Options :

1. ✖ 1

2. ✖ 2

3. ✔ 3

4. ✖ 4

Question Number : 181 Question Id : 54592751490 Question Type : MCQ Option Shuffling : Yes

Correct Marks : 1 Wrong Marks : 0.25

दिए गए वाक्य का वह भाग ज्ञात करें जिसमें कोई त्रुटि है।

समाज का प्रत्येक व्यक्ति (1)/ मोबाइल के बिना (2)/ अपने आप अपाहिज-सा (3)/ महसूस करने लगता है (4)

Options :

1. ✖ 1

2. ✖ 2

3. ✔ 3

4. ✖ 4

Question Number : 182 Question Id : 54592751491 Question Type : MCQ Option Shuffling : Yes

Correct Marks : 1 Wrong Marks : 0.25

निम्नलिखित में से कौन सा वाक्य सरल वाक्य नहीं है?

Options :

1. ✖ मेहनत करने वाले को ही नौकरी मिलेगी।

2. ✖ सुबह होते ही चिड़िया चहचहाने लगती है।

3. ✖ मेरे कमरे का फ्रिज खराब है।

4. ✔ मैं एक सपेरे से मिला, जो साँपों का व्यापार करता था।

Question Number : 182 Question Id : 54592751491 Question Type : MCQ Option Shuffling : Yes
Correct Marks : 1 Wrong Marks : 0.25

निम्नलिखित में से कौन सा वाक्य सरल वाक्य नहीं है?

Options :

1. * मेहनत करने वाले को ही नौकरी मिलेगी।
2. * सुबह होते ही चिड़िया चहचहाने लगती है।
3. * मेरे कमरे का फ्रिज खराब है।
4. ✓ मैं एक सपेरे से मिला, जो साँपों का व्यापार करता था।

Question Number : 183 Question Id : 54592751492 Question Type : MCQ Option Shuffling : Yes
Correct Marks : 1 Wrong Marks : 0.25

दिए गए वाक्य के वाच्य की पहचान कीजिए।

सीता खाना बना रही है।

Options :

1. * नित्यवाच्य
2. ✓ कर्तवाच्य
3. * कर्मवाच्य
4. * भाववाच्य

Question Number : 183 Question Id : 54592751492 Question Type : MCQ Option Shuffling : Yes
Correct Marks : 1 Wrong Marks : 0.25

दिए गए वाक्य के वाच्य की पहचान कीजिए।

सीता खाना बना रही है।

Options :

1. * नित्यवाच्य
2. ✓ कर्तवाच्य
3. * कर्मवाच्य

4. * भाववाच्य

Question Number : 184 Question Id : 54592751493 Question Type : MCQ Option Shuffling : Yes
Correct Marks : 1 Wrong Marks : 0.25

दिए गए वाक्य का पक्ष ज्ञात कीजिए।

वह अब तक काफी खेल चुका है।

Options :

1. ✓ पूर्णदयोतक
2. * प्रगतिबोधक
3. * सातप्यबोधक
4. * नित्यादयोतक

Question Number : 184 Question Id : 54592751493 Question Type : MCQ Option Shuffling : Yes
Correct Marks : 1 Wrong Marks : 0.25

दिए गए वाक्य का पक्ष ज्ञात कीजिए।

वह अब तक काफी खेल चुका है।

Options :

1. ✓ पूर्णदयोतक
2. * प्रगतिबोधक
3. * सातप्यबोधक
4. * नित्यादयोतक

Question Number : 185 Question Id : 54592751494 Question Type : MCQ Option Shuffling : Yes
Correct Marks : 1 Wrong Marks : 0.25

दिए गए वाक्य की वृत्ति ज्ञात कीजिए।

तुमने अपना काम कर लिया होगा।

Options :

1. ✓ संदेहार्थक

2. * निश्चयार्थक
3. * सामर्थ्य सूचक
4. * सातत्यबोधक

Question Number : 185 Question Id : 54592751494 Question Type : MCQ Option Shuffling : Yes
Correct Marks : 1 Wrong Marks : 0.25

दिए गए वाक्य की वृत्ति ज्ञात कीजिए।

तुमने अपना काम कर लिया होगा।

Options :

1. ✓ संदेहार्थक
2. * निश्चयार्थक
3. * सामर्थ्य सूचक
4. * सातत्यबोधक

Question Number : 186 Question Id : 54592751495 Question Type : MCQ Option Shuffling : Yes
Correct Marks : 1 Wrong Marks : 0.25

दिए गए वाक्य में रिक्त स्थान की पूर्ति कीजिए।

राम और _____ भाई आया है।

Options :

1. * उसके
2. ✓ उसका
3. * तुम
4. * आप

Question Number : 186 Question Id : 54592751495 Question Type : MCQ Option Shuffling : Yes
Correct Marks : 1 Wrong Marks : 0.25

दिए गए वाक्य में रिक्त स्थान की पूर्ति कीजिए।

राम और _____ भाई आया है।

Options :

1. ✖ उसके
2. ✔ उसका
3. ✖ तुम
4. ✖ आप

Question Number : 187 Question Id : 54592751496 Question Type : MCQ Option Shuffling : Yes

Correct Marks : 1 Wrong Marks : 0.25

दिए गए वाक्य में उपयुक्त परसर्ग का उपयोग करके रिक्त स्थान की पूर्ति कीजिए।

किसी _____ भी शत्रुता _____ भाव नहीं रखना चाहिए।

Options :

1. ✔ से, का
2. ✖ से, पर
3. ✖ से, को
4. ✖ से, की

Question Number : 187 Question Id : 54592751496 Question Type : MCQ Option Shuffling : Yes

Correct Marks : 1 Wrong Marks : 0.25

दिए गए वाक्य में उपयुक्त परसर्ग का उपयोग करके रिक्त स्थान की पूर्ति कीजिए।

किसी _____ भी शत्रुता _____ भाव नहीं रखना चाहिए।

Options :

1. ✔ से, का
2. ✖ से, पर

3. * से, को

4. * से, की

Question Number : 188 Question Id : 54592751497 Question Type : MCQ Option Shuffling : Yes

Correct Marks : 1 Wrong Marks : 0.25

निम्नलिखित प्रश्न में, दिए गए चार विकल्पों में से, उस विकल्प का चयन करें जो दिए गए मुहावरे के अर्थ को सर्वश्रेष्ठ रूप से व्यक्त करता है।

सुरसा की तरह मुँह बाना

Options :

1. * विपत्ति से छूटते ही विपत्ति में फँसना।
2. * लेन और देन में खरा होना चाहिए।
3. * क्षमता से अधिक माँगना।
4. ✓ निराशा के कारण घर वापस लौटना।

Question Number : 188 Question Id : 54592751497 Question Type : MCQ Option Shuffling : Yes

Correct Marks : 1 Wrong Marks : 0.25

निम्नलिखित प्रश्न में, दिए गए चार विकल्पों में से, उस विकल्प का चयन करें जो दिए गए मुहावरे के अर्थ को सर्वश्रेष्ठ रूप से व्यक्त करता है।

सुरसा की तरह मुँह बाना

Options :

1. * विपत्ति से छूटते ही विपत्ति में फँसना।
2. * लेन और देन में खरा होना चाहिए।
3. * क्षमता से अधिक माँगना।
4. ✓ निराशा के कारण घर वापस लौटना।

Question Number : 189 Question Id : 54592751498 Question Type : MCQ Option Shuffling : Yes

Correct Marks : 1 Wrong Marks : 0.25

निम्नलिखित प्रश्न में, दिए गए चार विकल्पों में से, उस विकल्प का चयन करें जो दिए गए मुहावरे के अर्थ को सर्वश्रेष्ठ रूप से व्यक्त करता है।

बेल मढ़े चढ़ना

Options :

1. ✓ कार्य सिद्ध होना।
2. * इच्छा होने पर काम बन जाना।
3. * अंत में सत्य की जीत होती है।
4. * अनिश्चय के कारण दोनों ओर से हानि उठाना।

Question Number : 189 Question Id : 54592751498 Question Type : MCQ Option Shuffling : Yes

Correct Marks : 1 Wrong Marks : 0.25

निम्नलिखित प्रश्न में, दिए गए चार विकल्पों में से, उस विकल्प का चयन करें जो दिए गए मुहावरे के अर्थ को सर्वश्रेष्ठ रूप से व्यक्त करता है।

बेल मढ़े चढ़ना

Options :

1. ✓ कार्य सिद्ध होना।
2. * इच्छा होने पर काम बन जाना।
3. * अंत में सत्य की जीत होती है।
4. * अनिश्चय के कारण दोनों ओर से हानि उठाना।

Question Number : 190 Question Id : 54592751499 Question Type : MCQ Option Shuffling : Yes

Correct Marks : 1 Wrong Marks : 0.25

निम्नलिखित प्रश्न में, दिए गए चार विकल्पों में से, उस विकल्प का चयन करें जो दिए गए मुहावरे के अर्थ को सर्वश्रेष्ठ रूप से व्यक्त करता है।

अता पता न होना

Options :

1. * वश में कर लेना।
2. * एकमात्र सहारा।
3. * अच्छा न लगना।
4. ✓ अस्तित्व न होना।

Question Number : 190 Question Id : 54592751499 Question Type : MCQ Option Shuffling : Yes
Correct Marks : 1 Wrong Marks : 0.25

निम्नलिखित प्रश्न में, दिए गए चार विकल्पों में से, उस विकल्प का चयन करें जो दिए गए मुहावरे के अर्थ को सर्वश्रेष्ठ रूप से व्यक्त करता है।

अता पता न होना

Options :

1. * वश में कर लेना।
2. * एकमात्र सहारा।
3. * अच्छा न लगना।
4. ✓ अस्तित्व न होना।

Question Number : 191 Question Id : 54592751500 Question Type : MCQ Option Shuffling : Yes
Correct Marks : 1 Wrong Marks : 0.25

दिए गए शब्दों के समूह के लिए सही मुहावरे का चयन कीजिए।

सामान कम तोलना।

Options :

1. * खाई पाटना
2. ✓ डंडी मारना
3. * काया पलट
4. * टका सा जवाब देना

Question Number : 191 Question Id : 54592751500 Question Type : MCQ Option Shuffling : Yes
Correct Marks : 1 Wrong Marks : 0.25

दिए गए शब्दों के समूह के लिए सही मुहावरे का चयन कीजिए।

सामान कम तोलना।

Options :

1. ✖ खाई पाटना
2. ✔ डंडी मारना
3. ✖ काया पलट
4. ✖ टका सा जवाब देना

Question Number : 192 Question Id : 54592751501 Question Type : MCQ Option Shuffling : Yes
Correct Marks : 1 Wrong Marks : 0.25

दिए गए शब्दों के समूह के लिए सही मुहावरे का चयन कीजिए।

हर तरफ मुश्किल में घिरना।

Options :

1. ✖ आ बैल मुझे मार
2. ✖ मुँह में राम बगल में छुरी
3. ✔ इधर कुआँ उधर खाई होना
4. ✖ तिल का ताड़ बनाना

Question Number : 192 Question Id : 54592751501 Question Type : MCQ Option Shuffling : Yes
Correct Marks : 1 Wrong Marks : 0.25

दिए गए शब्दों के समूह के लिए सही मुहावरे का चयन कीजिए।

हर तरफ मुश्किल में घिरना।

Options :

1. ✖ आ बैल मुझे मार
2. ✖ मुँह में राम बगल में छुरी
3. ✔ इधर कुआँ उधर खाई होना

4. * तिल का ताड़ बनाना

Question Number : 193 Question Id : 54592751502 Question Type : MCQ Option Shuffling : Yes

Correct Marks : 1 Wrong Marks : 0.25

दिए गए वाक्य के लिए सही लोकोक्ति का चयन करके रिक्त स्थान की पूर्ति कीजिए।

जवान पुत्र की मृत्यु क्या हुई, उसकी तो _____।

Options :

1. ✓ कमर टूट गई
2. * खाई पर गई
3. * टाँग अड़ गई
4. * सिर घुम गया

Question Number : 193 Question Id : 54592751502 Question Type : MCQ Option Shuffling : Yes

Correct Marks : 1 Wrong Marks : 0.25

दिए गए वाक्य के लिए सही लोकोक्ति का चयन करके रिक्त स्थान की पूर्ति कीजिए।

जवान पुत्र की मृत्यु क्या हुई, उसकी तो _____।

Options :

1. ✓ कमर टूट गई
2. * खाई पर गई
3. * टाँग अड़ गई
4. * सिर घुम गया

Question Number : 194 Question Id : 54592751503 Question Type : MCQ Option Shuffling : Yes

Correct Marks : 1 Wrong Marks : 0.25

दिए गए विराम चिह्न के रूप की पहचान कीजिए।

‘: -’

Options :

1. * लाघव चिह्न
2. ✓ विवरण चिह्न
3. * त्रुटिपूरक चिह्न
4. * उद्धरण चिह्न

Question Number : 194 Question Id : 54592751503 Question Type : MCQ Option Shuffling : Yes
Correct Marks : 1 Wrong Marks : 0.25

दिए गए विराम चिह्न के रूप की पहचान कीजिए।

': -'

Options :

1. * लाघव चिह्न
2. ✓ विवरण चिह्न
3. * त्रुटिपूरक चिह्न
4. * उद्धरण चिह्न

Question Number : 195 Question Id : 54592751504 Question Type : MCQ Option Shuffling : Yes
Correct Marks : 1 Wrong Marks : 0.25

एक ही श्रेणी के शब्दों को अलग करने के लिए किस विराम चिह्न का उपयोग किया जाता है?

Options :

1. ✓ ,
2. * |
3. * -
4. * _

Question Number : 195 Question Id : 54592751504 Question Type : MCQ Option Shuffling : Yes
Correct Marks : 1 Wrong Marks : 0.25

एक ही श्रेणी के शब्दों को अलग करने के लिए किस विराम चिह्न का उपयोग किया जाता है?

Options :

1. ✓ ,

2. ✖ |

3. ✖ -

4. ✖ _

Sub-Section Number: 2
Sub-Section Id: 5459273060
Question Shuffling Allowed : Yes

Question Id : 54592751505 Question Type : COMPREHENSION Sub Question Shuffling Allowed : Yes Group Comprehension Questions : No

Question Numbers : (196 to 200)

Question Label : Comprehension

एक गद्यांश दिया गया है। गद्यांश के आधार पर पाँच प्रश्न दिए गए हैं। गद्यांश को ध्यानपूर्वक पढ़ें तथा प्रत्येक प्रश्न में चार विकल्पों में से सही विकल्प चुने।

महात्मा और विद्वानों का सबसे बड़ा लक्षण आवाज को ध्यान से सुनना। यह आवाज कुछ भी हो सकती है। कौओं की कर्कश आवाज से लेकर नदियों की छल छल तक। मार्टिन लूथर किंग के भाषण से लेकर किसी पागल के बड़बड़ाने तक। अमूमन ऐसा होता नहीं। सच यह है कि हम सुनना चाहते ही नहीं। बस बोलना चाहते हैं। हमें लगता है कि इससे लोग हमें बेहतर तरीके से समझेंगे हालाँकि ऐसा होता नहीं। हमें पता ही नहीं चलता और अधिक बोलने की कला हमें अनसुना करने की कला में पारंगत कर देती है। एक मनोवैज्ञानिक ने अपने अध्ययन में पाया कि जिन घरों में अभिभावक ज्यादा बोलते हैं, वहाँ बच्चों में सही गलत से जुड़ा स्वभाविक ज्ञान कम विकसित हो पाता है, क्योंकि ज्यादा बोलना बातों को विरोधाभासी तरीके से सामने रखता है और सामने वाला बस शब्दों के जाल में फस कर रह जाता है। बात औपचारिक हो या अनौपचारिक दोनों स्थितियों में हम एक दूसरे की बात न सुन, बस हावी होने की कोशिश करते हैं। खुद ज्यादा बोलने और दूसरों को अनसुना करने में जाहिर होता है कि हम अपने बारे में ज्यादा सोचते हैं और दूसरों के बारे में कम। ज्यादा बोलने वालों के दुश्मनों की संख्या भी ज्यादा होती है। अगर आप नहीं दुश्मन बनाना चाहते हैं तो अपने दोस्तों से ज्यादा बोले और अगर आप नए दोस्त बनाना चाहते हैं तो दुश्मनों से कम बोलें।

Sub questions

Question Number : 196 Question Id : 54592751506 Question Type : MCQ Option Shuffling : Yes
Correct Marks : 1 Wrong Marks : 0.25

अनसुना करने की कला क्यों विकसित होती है?

Options :

1. * न सुनने के कारण
2. ✓ अधिक बोलने के कारण
3. * कम बोलने के कारण
4. * कम सुनने के कारण

Question Number : 197 Question Id : 54592751507 Question Type : MCQ Option Shuffling : Yes
Correct Marks : 1 Wrong Marks : 0.25

अधिक बोलने वाले अभिभावकों का बच्चों पर क्या प्रभाव पड़ता है?

Options :

1. * बच्चों अधिक बोलते हैं
2. * बच्चे कम बोलते हैं
3. ✓ बच्चे सही - गलत का ज्ञान नहीं कर पाते
4. * बच्चे ऊँचा सुनते हैं

Question Number : 198 Question Id : 54592751508 Question Type : MCQ Option Shuffling : Yes

Correct Marks : 1 Wrong Marks : 0.25

किनके दुश्मन अधिक होते है?

Options :

1. * कम बोलने वाले
2. * कम सुनने वाले
3. ✓ ज्यादा बोलने वाले
4. * ज्यादा सुनने वाले

Question Number : 199 Question Id : 54592751509 Question Type : MCQ Option Shuffling : Yes

Correct Marks : 1 Wrong Marks : 0.25

हम सुनना चाहते ही नहीं' से क्या तात्पर्य है?

Options :

1. ✓ हम सिर्फ बोलना चाहते हैं
2. * हम किसी से बात नहीं करना चाहते
3. * हम किसी को बोलने नहीं देना चाहते
4. * हम सिर्फ पढ़ना चाहते हैं

Question Number : 200 Question Id : 54592751510 Question Type : MCQ Option Shuffling : Yes

Correct Marks : 1 Wrong Marks : 0.25

उपर्युक्त गद्यांश का शीर्षक क्या है?

Options :

1. * एकाग्रता
2. * बोलने की कला
3. ✓ सुनने की कला
4. * अभिभावक वर्ग

Question Id : 54592751505 Question Type : COMPREHENSION Sub Question Shuffling Allowed : Yes Group Comprehension Questions : No

Question Numbers : (196 to 200)

Question Label : Comprehension

एक गद्यांश दिया गया है। गद्यांश के आधार पर पाँच प्रश्न दिए गए हैं । गद्यांश को ध्यानपूर्वक पढ़ें तथा प्रत्येक प्रश्न में चार विकल्पों में से सही विकल्प चुने।

महात्मा और विद्वानों का सबसे बड़ा लक्षण आवाज को ध्यान से सुनना । यह आवाज कुछ भी हो सकती है। कौओं की कर्कश आवाज से लेकर नदियों की छल छल तक। मार्टिन लूथर किंग के भाषण से लेकर किसी पागल के बड़बड़ाने तक। अमूमन ऐसा होता नहीं। सच यह है कि हम सुनना चाहते ही नहीं। बस बोलना चाहते हैं। हमें लगता है कि इससे लोग हमें बेहतर तरीके से समझेंगे हालाँकि ऐसा होता नहीं। हमें पता ही नहीं चलता और अधिक बोलने की कला हमें अनसुना करने की कला में पारंगत कर देती है। एक मनोवैज्ञानिक ने अपने अध्ययन में पाया कि जिन घरों में अभिभावक ज्यादा बोलते हैं, वहाँ बच्चों में सही गलत से जुड़ा स्वभाविक ज्ञान कम विकसित हो पाता है, क्योंकि ज्यादा बोलना बातों को विरोधाभासी तरीके से सामने रखता है और सामने वाला बस शब्दों के जाल में फस कर रह जाता है। बात औपचारिक हो या अनौपचारिक दोनों स्थितियों में हम एक दूसरे की बात न सुन, बस हावी होने की कोशिश करते हैं। खुद ज्यादा बोलने और दूसरों को अनसुना करने में जाहिर होता है कि हम अपने बारे में ज्यादा सोचते हैं और दूसरों के बारे में कम। ज्यादा बोलने वालों के दुश्मनों की संख्या भी ज्यादा होती है। अगर आप नहीं दुश्मन बनाना चाहते हैं तो अपने दोस्तों से ज्यादा बोले और अगर आप नए दोस्त बनाना चाहते हैं तो दुश्मनों से कम बोलें।

Sub questions

अनसुना करने की कला क्यों विकसित होती है?

Options :

1. * न सुनने के कारण
2. ✓ अधिक बोलने के कारण
3. * कम बोलने के कारण
4. * कम सुनने के कारण

Question Number : 197 Question Id : 54592751507 Question Type : MCQ Option Shuffling : Yes

Correct Marks : 1 Wrong Marks : 0.25

अधिक बोलने वाले अभिभावकों का बच्चों पर क्या प्रभाव पड़ता है?

Options :

1. * बच्चें अधिक बोलते हैं
2. * बच्चे कम बोलते हैं
3. ✓ बच्चे सही - गलत का ज्ञान नहीं कर पाते
4. * बच्चे ऊँचा सुनते हैं

Question Number : 198 Question Id : 54592751508 Question Type : MCQ Option Shuffling : Yes

Correct Marks : 1 Wrong Marks : 0.25

किनके दुश्मन अधिक होते हैं?

Options :

1. * कम बोलने वाले
2. * कम सुनने वाले
3. ✓ ज्यादा बोलने वाले
4. * ज्यादा सुनने वाले

Question Number : 199 Question Id : 54592751509 Question Type : MCQ Option Shuffling : Yes

Correct Marks : 1 Wrong Marks : 0.25

हम सुनना चाहते ही नहीं से क्या तात्पर्य है?

Options :

1. ✓ हम सिर्फ बोलना चाहते हैं
2. ✖ हम किसी से बात नहीं करना चाहते
3. ✖ हम किसी को बोलने नहीं देना चाहते
4. ✖ हम सिर्फ पढ़ना चाहते हैं

Question Number : 200 Question Id : 54592751510 Question Type : MCQ Option Shuffling : Yes
Correct Marks : 1 Wrong Marks : 0.25

उपर्युक्त गद्यांश का शीर्षक क्या है?

Options :

1. ✖ एकाग्रता
2. ✖ बोलने की कला
3. ✓ सुनने की कला
4. ✖ अभिभावक वर्ग