

Education Consultant India Ltd.

Notations :

1.Options shown in green color and with ✓ icon are correct.

2.Options shown in red color and with ✖ icon are incorrect.

Question Paper Name:	Grade IV DASS Junior Assistant 04th September 2019 Shift 2
Subject Name:	GRADE IV DASS JUNIOR ASSISTANT
Creation Date:	2019-09-04 16:16:41
Duration:	120
Total Marks:	200
Display Marks:	Yes
Share Answer Key With Delivery Engine:	No
Actual Answer Key:	Yes
Calculator:	None
Magnifying Glass Required?:	No
Ruler Required?:	No
Eraser Required?:	No
Scratch Pad Required?:	No
Rough Sketch/Notepad Required?:	No
Protractor Required?:	No
Show Watermark on Console?:	Yes
Highlighter:	No
Auto Save on Console?:	No

Mental Ability1

Group Number :	1
Group Id :	5459271151
Group Maximum Duration :	0
Group Minimum Duration :	0
Show Attended Group? :	No
Edit Attended Group? :	No
Break time:	0
Group Marks:	20
Is this Group for Examiner?:	No
Revisit allowed for group Instructions? :	Yes
Maximum Instruction Time:	0
Minimum Instruction Time:	0

Mental Ability1

Section Id :	5459271151
Section Number :	1

Section type :	Online
Mandatory or Optional:	Mandatory
Number of Questions:	20
Number of Questions to be attempted:	20
Section Marks:	20

Sub-Section Number:	1
Sub-Section Id:	5459271381
Question Shuffling Allowed :	Yes

Question Number : 1 Question Id : 54592723231 Question Type : MCQ Option Shuffling : Yes
Correct Marks : 1 Wrong Marks : 0.25

Find out the next term.

2DR, 5GS,8JT,?

Options :

1. ✘ 9OU
2. ✔ 11MU
3. ✘ 12MV
4. ✘ 14NU

Question Number : 1 Question Id : 54592723231 Question Type : MCQ Option Shuffling : Yes
Correct Marks : 1 Wrong Marks : 0.25

अगला पद ज्ञात करें।

2DR, 5GS,8JT,?

Options :

1. ✘ 9OU
2. ✔ 11MU
3. ✘ 12MV
4. ✘ 14NU

Question Number : 2 Question Id : 54592723232 Question Type : MCQ Option Shuffling : Yes
Correct Marks : 1 Wrong Marks : 0.25

Find the wrong term in the series?

D,H,K,P,T

Options :

1. ✖ D

2. ✖ H

3. ✖ T

4. ✔ K

Question Number : 2 Question Id : 54592723232 Question Type : MCQ Option Shuffling : Yes

Correct Marks : 1 Wrong Marks : 0.25

श्रृंखला में गलत पद खोजें?

D,H,K,P,T

Options :

1. ✖ D

2. ✖ H

3. ✖ T

4. ✔ K

Question Number : 3 Question Id : 54592723233 Question Type : MCQ Option Shuffling : Yes

Correct Marks : 1 Wrong Marks : 0.25

In the word 'CREAM' how many pairs of words have as many letter as in English alphabet?

Options :

1. ✔ One

2. ✖ Two

3. ✖ Three

4. ✖ Four

Question Number : 3 Question Id : 54592723233 Question Type : MCQ Option Shuffling : Yes
Correct Marks : 1 Wrong Marks : 0.25

शब्द CREAM 'में अंग्रेजी वर्णमाला के अनुसार कितने अक्षरों में उतना ही अंतर है जितना इस शब्द में है?

Options :

1. ✓ एक
2. ✗ दो
3. ✗ तीन
4. ✗ चार

Question Number : 4 Question Id : 54592723234 Question Type : MCQ Option Shuffling : Yes
Correct Marks : 1 Wrong Marks : 0.25

Choose the odd one from the given alternatives.

Note: For this question, discrepancy is found in question/answer. So, this question is ignored for all candidates.

Options :

1. CKI
2. AEK
3. QSU
4. UXY

Question Number : 4 Question Id : 54592723234 Question Type : MCQ Option Shuffling : Yes
Correct Marks : 1 Wrong Marks : 0.25

दिए गए विकल्पों से भिन्न को चुनें।

Note: For this question, discrepancy is found in question/answer. So, this question is ignored for all candidates.

Options :

1. CKI
2. AEK
3. QSU
4. UXY

Question Number : 5 Question Id : 54592723235 Question Type : MCQ Option Shuffling : Yes
Correct Marks : 1 Wrong Marks : 0.25

In each of the following questions, certain pairs of words are given, out of which the words in all pairs except one, bear a certain common relationship. Choose the pair in which the words are differently related.

Options :

1. * Greece : Euro
2. ✓ UAE : Dinar
3. * JAPAN : Yen
4. * Croatia: Kuna

Question Number : 5 Question Id : 54592723235 Question Type : MCQ Option Shuffling : Yes
Correct Marks : 1 Wrong Marks : 0.25

निम्नलिखित प्रत्येक प्रश्न में, कुछ निश्चित शब्द दिए गए हैं, जिनमें से एक को छोड़कर सभी जोड़े में शब्द एक निश्चित सामान्य संबंध हैं। उस जोड़ी को चुनें जिसमें शब्द अलग तरह से संबंधित हैं।

Options :

1. * ग्रीस : यूरो
2. ✓ यूएई : दीनार
3. * जापान : येन
4. * क्रोएशिया : यूरो

Question Number : 6 Question Id : 54592723236 Question Type : MCQ Option Shuffling : Yes
Correct Marks : 1 Wrong Marks : 0.25

Choose the odd one from the given alternatives.

Options :

1. * IJ : ST
2. * TS: PO
3. * VX: UW

4. ✓ UT: VW

Question Number : 6 Question Id : 54592723236 Question Type : MCQ Option Shuffling : Yes
Correct Marks : 1 Wrong Marks : 0.25

दिए गए विकल्पों में से विषम को चुनिए।

Options :

1. ✗ IJ : ST

2. ✗ TS: PO

3. ✗ VX: UW

4. ✓ UT: VW

Question Number : 7 Question Id : 54592723237 Question Type : MCQ Option Shuffling : Yes
Correct Marks : 1 Wrong Marks : 0.25

In the following question, select the related letter/word/number from the given alternatives.

India : _____ :: Australia : Kangaroo

Options :

1. ✗ Lion

2. ✓ Tiger

3. ✗ Zebra

4. ✗ Wolf

Question Number : 7 Question Id : 54592723237 Question Type : MCQ Option Shuffling : Yes
Correct Marks : 1 Wrong Marks : 0.25

निम्नलिखित प्रश्न में, दिए गए विकल्पों में से संबंधित अक्षर / शब्द / संख्या को चुनिए।

भारत: _____ :: ऑस्ट्रेलिया: कंगारू

Options :

1. ✖ शेर
2. ✔ टाइगर
3. ✖ ज़ेबरा
4. ✖ भेड़िया

Question Number : 8 Question Id : 54592723238 Question Type : MCQ Option Shuffling : Yes
Correct Marks : 1 Wrong Marks : 0.25

In the following question, select the related letter/word/number from the given alternatives.

FH : US :: GJ : _____

Options :

1. ✖ UV
2. ✖ NO
3. ✔ TQ
4. ✖ AZ

Question Number : 8 Question Id : 54592723238 Question Type : MCQ Option Shuffling : Yes
Correct Marks : 1 Wrong Marks : 0.25

निम्नलिखित प्रश्न में, दिए गए विकल्पों में से संबंधित अक्षर / शब्द / संख्या को चुनिए।

FH: US :: GJ: _____

Options :

1. ✖ UV
2. ✖ NO
3. ✔ TQ
4. ✖ AZ

Question Number : 9 Question Id : 54592723239 Question Type : MCQ Option Shuffling : Yes
Correct Marks : 1 Wrong Marks : 0.25

In the following question, select the related letter/word/number from the given alternatives.

BD : CI :: _____

Options :

1. ✖ CM : KK
2. ✖ IJ : IJ
3. ✖ CO : FT
4. ✔ DP : EY

Question Number : 9 Question Id : 54592723239 Question Type : MCQ Option Shuffling : Yes
Correct Marks : 1 Wrong Marks : 0.25

निम्नलिखित प्रश्न में, दिए गए विकल्पों में से संबंधित अक्षर / शब्द / संख्या को चुनिए।

BD: CI :: _____

Options :

1. ✖ CM : KK
2. ✖ IJ : IJ
3. ✖ CO : FT
4. ✔ DP : EY

Question Number : 10 Question Id : 54592723240 Question Type : MCQ Option Shuffling : Yes
Correct Marks : 1 Wrong Marks : 0.25

In a certain code language, if the word DRAMA is coded as AMARD, then how is the word CRICKET coded in that language?

Options :

1. ✖ TCKKIRC

2. ✖ TKECIRC

3. ✔ TEKCIRC

4. ✖ TEKCRIC

Question Number : 10 Question Id : 54592723240 Question Type : MCQ Option Shuffling : Yes
Correct Marks : 1 Wrong Marks : 0.25

एक निश्चित कूट भाषा में, अगर DRAMA शब्द को AMARD के रूप में कोडित किया जाता है, तो CRICKET शब्द को उस भाषा में कैसे कोडित किया जाता है?

Options :

1. ✖ TCKKIRC

2. ✖ TKECIRC

3. ✔ TEKCIRC

4. ✖ TEKCRIC

Question Number : 11 Question Id : 54592723241 Question Type : MCQ Option Shuffling : Yes
Correct Marks : 1 Wrong Marks : 0.25

If 'Pen' is called 'Table', 'Table' is called 'Computer', 'Computer' is called 'Pencil', 'Pencil' is called 'Mango' and 'Mango' is called 'Watch', then what we eat?

Options :

1. ✖ Pencil

2. ✖ Computer

3. ✖ Mango

4. ✔ Watch

Question Number : 11 Question Id : 54592723241 Question Type : MCQ Option Shuffling : Yes
Correct Marks : 1 Wrong Marks : 0.25

यदि 'पेन' को 'टेबल' कहा जाता है, 'टेबल' को 'कंप्यूटर' कहा जाता है, 'कंप्यूटर' को 'पेंसिल' कहा जाता है, 'पेंसिल' को 'आम' कहा जाता है और 'आम' को 'घड़ी' कहा जाता है तो हम क्या खाते हैं?

Options :

1. ✖ पेंसिल
2. ✖ कंप्यूटर
3. ✖ आम
4. ✔ घड़ी

Question Number : 12 Question Id : 54592723242 Question Type : MCQ Option Shuffling : Yes

Correct Marks : 1 Wrong Marks : 0.25

In the following question, a group of letters is given which are numbered 1, 2, 3, 4, 5 and 6. Below are given four alternatives containing combinations of these numbers. Select that combination of numbers so that letters arranged accordingly, form a meaningful word.

I N O T A C

1 2 3 4 5 6

Options :

1. ✖ 4, 6, 3, 5, 2, 1
2. ✔ 5, 6, 4, 1, 3, 2
3. ✖ 4, 6, 5, 2, 3, 1
4. ✖ 5, 2, 3, 1, 6, 4

Question Number : 12 Question Id : 54592723242 Question Type : MCQ Option Shuffling : Yes

Correct Marks : 1 Wrong Marks : 0.25

निम्नलिखित प्रश्न में, अक्षरों का एक समूह दिया गया है , संख्या 1, 2, 3, 4, 5 और 6 नीचे दिए गए हैं, इन संख्याओं के संयोजन वाले चार विकल्प दिए गए हैं। संख्याओं के उस संयोजन का चयन करें ताकि अक्षरों के अनुसार व्यवस्थित हो, एक सार्थक शब्द बनाएं।

I N O T A C

1 2 3 4 5 6

Options :

1. ✖ 4, 6, 3, 5, 2, 1

2. ✔ 5, 6, 4, 1, 3, 2

3. ✖ 4, 6, 5, 2, 3, 1

4. ✖ 5, 2, 3, 1, 6, 4

Question Number : 13 Question Id : 54592723243 Question Type : MCQ Option Shuffling : Yes
Correct Marks : 1 Wrong Marks : 0.25

A, B, C, D, E, F and G are sitting around a circle facing at the center. D is third to the left of A who is second to the left of F. E is not a neighbor of either F or D. C is third to left of B.

Who is sitting between G and B ?

Options :

1. ✔ F only

2. ✖ D only

3. ✖ Both F and D

4. ✖ Data inadequate

Question Number : 13 Question Id : 54592723243 Question Type : MCQ Option Shuffling : Yes
Correct Marks : 1 Wrong Marks : 0.25

A, B, C, D, E, F, और G, एक वृत्ताकार मेज पर केन्द्र की ओर मुख किए हुए बैठे हैं। D, A के बाएं से तीसरा है जो कि F के बाएं से दूसरा है। E, F या D का पड़ोसी नहीं हैं। C, B के बाएं से तीसरे स्थान पर है।

G और B के मध्य कौन बैठा है?

Options :

1. ✓ केवल F
2. ✗ केवल D
3. ✗ F और D दोनों
4. ✗ डाटा अपर्याप्त

Question Number : 14 Question Id : 54592723244 Question Type : MCQ Option Shuffling : Yes

Correct Marks : 1 Wrong Marks : 0.25

Yami scored as much as Disha. Kabir scored more than Romi. Romi scored more than Yami. Moni scored less than Disha. Shami scored less than Moni. Who scored the lowest?

Options :

1. ✗ Moni
2. ✗ Romi
3. ✗ Disha
4. ✓ Shami

Question Number : 14 Question Id : 54592723244 Question Type : MCQ Option Shuffling : Yes

Correct Marks : 1 Wrong Marks : 0.25

यामी ने दीशा जितना ही स्कोर किया। कबीर ने रोमी से अधिक स्कोर किया। रोमी ने यामी से अधिक स्कोर किया। मोनी ने दीशा से कम स्कोर किया। शमी ने मोनी से कम स्कोर बनाए। किसने सबसे कम स्कोर किया?

Options :

1. ✖ मोनी
2. ✖ रोमी
3. ✖ दीशा
4. ✔ शमी

Question Number : 15 Question Id : 54592723245 Question Type : MCQ Option Shuffling : Yes

Correct Marks : 1 Wrong Marks : 0.25

Each of P, Q, R, S and T belongs to a different profession among - teacher, doctor, lawyer, police-officer and banker. P is the police-officer and Q is neither the doctor nor the lawyer. R is the teacher and S is neither the banker nor the lawyer. Who among them is the banker?

Options :

1. ✖ T
2. ✔ Q
3. ✖ Q or T
4. ✖ S

Question Number : 15 Question Id : 54592723245 Question Type : MCQ Option Shuffling : Yes

Correct Marks : 1 Wrong Marks : 0.25

P, Q, R, S और T में से प्रत्येक एक अलग पेशे के अंतर्गत आता है - शिक्षक, डॉक्टर, वकील, पुलिस-अधिकारी और बैंकर। P पुलिस-अधिकारी है और Q न तो डॉक्टर है और न ही वकील है। R शिक्षक है और S न तो बैंकर है और न ही वकील है। उनमें से कौन बैंकर है?

Options :

1. ✖ T
2. ✔ Q
3. ✖ Q या T
4. ✖ S

Question Number : 16 Question Id : 54592723246 Question Type : MCQ Option Shuffling : Yes
Correct Marks : 1 Wrong Marks : 0.25

Five ladies P, Q, R, S and T read a Novel.

The one who reads first gives it to R. There were two readers between Q and P. The one who reads last had taken from P. T was neither the first nor the last reader.

Q passed the novel to whom?

Options :

1. ✔ R
2. ✖ S
3. ✖ P
4. ✖ T

Question Number : 16 Question Id : 54592723246 Question Type : MCQ Option Shuffling : Yes
Correct Marks : 1 Wrong Marks : 0.25

पांच महिलाओं P, Q, R, S और T ने एक उपन्यास पढ़ा।

जो पहले पढ़ता है, वह R को देता है। Q और P के बीच दो पाठक थे।

जो अंतिम पढ़ता है, वह P से लिया था, T न तो पहला और न ही अंतिम पाठक।

Q से उपन्यास किसके पास गया?

Options :

1. ✓ R

2. ✗ S

3. ✗ P

4. ✗ T

Question Number : 17 Question Id : 54592723247 Question Type : MCQ Option Shuffling : Yes

Correct Marks : 1 Wrong Marks : 0.25

Rohit is the brother of Kumar, whose only sister is mother of Singh, Sneha is maternal grandmother of Singh. How is Kumar related to Sneha?

Options :

1. ✗ Daughter-in-law

2. ✓ Son or Daughter

3. ✗ Aunt

4. ✗ Nephew

Question Number : 17 Question Id : 54592723247 Question Type : MCQ Option Shuffling : Yes

Correct Marks : 1 Wrong Marks : 0.25

रोहित कुमार का भाई है, जिसकी एकमात्र बहन सिंह की माँ है, स्नेहा सिंह की नानी है। कुमार स्नेहा से कैसे संबंधित हैं?

Options :

1. ✗ बहु

2. ✓ पुत्र या पुत्री

3. ✗ चाची / मामी / मौसी / बुआ

4. ✗ भतीजा / भांजा

Question Number : 18 Question Id : 54592723248 Question Type : MCQ Option Shuffling : Yes

Correct Marks : 1 Wrong Marks : 0.25

In the questions below has four Statements followed by two Conclusions . You have to consider every given statement as true. Read the conclusions and then decide which of the conclusions can be logically derived.

Statements:

All Winners are Chicken.

All Chicken are Dinner.

No Dinner is Wheat.

All Wheat are Rice.

Conclusions:

I. Some Chicken are not Wheat.

II. All Dinner are Rice.

Options :

1. ✖ Only conclusion I follows

2. ✖ Only conclusion II follows

3. ✖ Either conclusion I or II follows

4. ✔ Neither conclusion I nor II follows

Question Number : 18 Question Id : 54592723248 Question Type : MCQ Option Shuffling : Yes

Correct Marks : 1 Wrong Marks : 0.25

नीचे दिए गए प्रश्नों में दो कथन हैं जो चार निष्कर्षों का अनुसरण करते हैं। आपको दिए गए प्रत्येक कथन को सत्य मानना होगा। निष्कर्ष को पढ़ें और फिर तय करें कि कौन सा निष्कर्ष तर्कसंगत रूप से अनुसरण करता है।

कथन:

सभी विजेता चिकन हैं।

सभी चिकन डिनर हैं।

कोई डिनर गेहूं नहीं है।

सभी गेहूं चावल हैं।

निष्कर्ष:

I. कुछ चिकन गेहूं नहीं हैं।

II. सभी डिनर चावल हैं।

Options :

1. * केवल निष्कर्ष I अनुसरण करता है

2. * केवल निष्कर्ष II अनुसरण करता है

3. * या तो निष्कर्ष I या II अनुसरण करता है

4. ✓ कोई भी निष्कर्ष अनुसरण नहीं करता

Question Number : 19 Question Id : 54592723249 Question Type : MCQ Option Shuffling : Yes

Correct Marks : 1 Wrong Marks : 0.25

In the following question, there is a statement followed by two courses of action, numbered I and II. You have to assume everything in the statement to be true to decide which of the two suggested courses of action logically follows for pursuing

Statement:

Teenagers these days are turning more and more violent.

Course of actions:

I. Ban use of computer games.

II. Ban use of internet.

Options :

1. * Only I follows

2. * Only II follows

3. * Either I or II follows

4. ✓ Neither I nor II follows

Question Number : 19 Question Id : 54592723249 Question Type : MCQ Option Shuffling : Yes

Correct Marks : 1 Wrong Marks : 0.25

निम्नलिखित प्रश्न में, एक कथन के बाद दो कार्यवाही । और ॥ है। आपको इस कथन को सत्य मान कर तय करना है की दी गयी दो कार्रवाई में से कौन सा तार्किक रूप से सही है।

बयान:

इन दिनों किशोरावस्था के बच्चे अधिक से अधिक हिंसक हो रहे हैं।

क्रियाओं का पाठ्यक्रम:

I. कंप्यूटर गेम का प्रतिबंध।

II इंटरनेट का उपयोग बंद करें।

Options :

1. ✖ केवल I अनुसरण करता है।
2. ✖ केवल II अनुसरण करता है।
3. ✖ या तो I या II अनुसरण करता है।।
4. ✔ न तो I और न ही II अनुसरण करता है।

Question Number : 20 Question Id : 54592723250 Question Type : MCQ Option Shuffling : Yes
Correct Marks : 1 Wrong Marks : 0.25

Complete the following series:

88, 40, 16, 4, -2, ?

Options :

1. ✔ -5
2. ✖ -1
3. ✖ 2
4. ✖ -3

Question Number : 20 Question Id : 54592723250 Question Type : MCQ Option Shuffling : Yes
Correct Marks : 1 Wrong Marks : 0.25

निम्नलिखित श्रृंखला को पूरा करें।

88, 40, 16, 4, -2, ?

Options :

1. ✔ -5
2. ✖ -1
3. ✖ 2
4. ✖ -3

Group Number :	2
Group Id :	5459271152
Group Maximum Duration :	0
Group Minimum Duration :	0
Show Attended Group? :	No
Edit Attended Group? :	No
Break time:	0
Group Marks:	20
Is this Group for Examiner?:	No
Revisit allowed for group Instructions? :	Yes
Maximum Instruction Time:	0
Minimum Instruction Time:	0

Mental Ability2

Section Id :	5459271152
Section Number :	1
Section type :	Online
Mandatory or Optional:	Mandatory
Number of Questions:	20
Number of Questions to be attempted:	20
Section Marks:	20

Sub-Section Number:	1
Sub-Section Id:	5459271382
Question Shuffling Allowed :	Yes

Question Number : 21 Question Id : 54592723251 Question Type : MCQ Option Shuffling : Yes
Correct Marks : 1 Wrong Marks : 0.25

Find the wrong number in the series:

17, 26, 51, 101, 181

Options :

1. ✖ 17

2. ✖ 181

3. ✔ 101

4. ✖ 26

Question Number : 21 Question Id : 54592723251 Question Type : MCQ Option Shuffling : Yes
Correct Marks : 1 Wrong Marks : 0.25

श्रृंखला में गलत संख्या ज्ञात करें।

17, 26, 51, 101, 181

Options :

1. ✖ 17

2. ✖ 181

3. ✔ 101

4. ✖ 26

Question Number : 22 Question Id : 54592723252 Question Type : MCQ Option Shuffling : Yes
Correct Marks : 1 Wrong Marks : 0.25

Choose the odd one from the given options:

Note: For this question, discrepancy is found in question/answer. So, this question is ignored for all candidates.

Options :

1. 324

2. 156

3. 720

4. 136

Question Number : 22 Question Id : 54592723252 Question Type : MCQ Option Shuffling : Yes
Correct Marks : 1 Wrong Marks : 0.25

दिए गए विकल्पों में से भिन्न संख्या को चुनें।

Note: For this question, discrepancy is found in question/answer. So, this question is ignored for all candidates.

Options :

1. 324

2. 156

3. 720

4. 136

Question Number : 23 Question Id : 54592723253 Question Type : MCQ Option Shuffling : Yes
Correct Marks : 1 Wrong Marks : 0.25

Choose the odd pair from the given options:

Options :

1. ✖ 8 : 100
2. ✖ 9 : 121
3. ✖ 6 : 64
4. ✔ 7 : 25

Question Number : 23 Question Id : 54592723253 Question Type : MCQ Option Shuffling : Yes
Correct Marks : 1 Wrong Marks : 0.25

दिए गए विकल्पों में से विषम जोड़ी चुनें:

Options :

1. ✖ 8 : 100
2. ✖ 9 : 121
3. ✖ 6 : 64
4. ✔ 7 : 25

Question Number : 24 Question Id : 54592723254 Question Type : MCQ Option Shuffling : Yes
Correct Marks : 1 Wrong Marks : 0.25

Choose the odd numeral pair/group in each of the following question:

Options :

1. ✖ 6 (9) 9
2. ✖ 8 (36) 14
3. ✖ 5(4)7
4. ✔ 9(25) 11

Question Number : 24 Question Id : 54592723254 Question Type : MCQ Option Shuffling : Yes
Correct Marks : 1 Wrong Marks : 0.25

दिए गए विकल्पों में से भिन्न संख्या को चुनें।

Options :

1. ✖ 6 (9) 9

2. ✖ 8 (36) 14

3. ✖ 5(4)7

4. ✔ 9(25) 11

Question Number : 25 Question Id : 54592723255 Question Type : MCQ Option Shuffling : Yes

Correct Marks : 1 Wrong Marks : 0.25

In the following question, select the related letter/word/number from the given alternatives.

(12, 244, 312)

Options :

1. ✔ (212, 28, 496)

2. ✖ (300, 137, 296)

3. ✖ (312,436,291)

4. ✖ (530, 642, 861)

Question Number : 25 Question Id : 54592723255 Question Type : MCQ Option Shuffling : Yes

Correct Marks : 1 Wrong Marks : 0.25

निम्नलिखित प्रश्न में दिए गए विकल्पों में से सम्बन्धित अक्षर/शब्द/संख्या को चुनिए।

(12, 244, 312)

Options :

1. ✔ (212, 28, 496)

2. ✖ (300, 137, 296)

3. ✖ (312,436,291)

4. ✖ (530, 642, 861)

Question Number : 26 Question Id : 54592723256 Question Type : MCQ Option Shuffling : Yes
Correct Marks : 1 Wrong Marks : 0.25

Find the missing term?

7	51	2
6	40	4
5	28	?

Options :

1. ✖ 1

2. ✔ 3

3. ✖ 2

4. ✖ 0

Question Number : 26 Question Id : 54592723256 Question Type : MCQ Option Shuffling : Yes
Correct Marks : 1 Wrong Marks : 0.25

लुप्त शब्द ज्ञात कीजिये?

7	51	2
6	40	4
5	28	?

Options :

1. ✖ 1

2. ✔ 3

3. ✖ 2

4. ✖ 0

Question Number : 27 Question Id : 54592723257 Question Type : MCQ Option Shuffling : Yes
Correct Marks : 1 Wrong Marks : 0.25

If '+' means '×', '-' means '+', 'x' means '÷' and '÷' means '-', then answer the following questions based on this information.

$$6 + 7 \times 3 - 8 \div 20 = ?$$

Options :

1. ✖ -3

2. ✖ 7

3. ✔ 2

4. ✖ 1

Question Number : 27 Question Id : 54592723257 Question Type : MCQ Option Shuffling : Yes

Correct Marks : 1 Wrong Marks : 0.25

यदि '+' का अर्थ '×', '-' का अर्थ '+' है, 'x' का अर्थ '÷' है और '÷' का अर्थ है '-', तो इस जानकारी के आधार पर निम्नलिखित प्रश्नों के उत्तर दें।

$$6 + 7 \times 3 - 8 \div 20 = ?$$

Options :

1. ✖ -3

2. ✖ 7

3. ✔ 2

4. ✖ 1

Question Number : 28 Question Id : 54592723258 Question Type : MCQ Option Shuffling : Yes

Correct Marks : 1 Wrong Marks : 0.25

In the question given below, there is a statement followed by two conclusions. You have to take the given statement to be true even if they seem to be at variance with commonly known facts and then decide which of the given conclusion logically follow(s) from the given statements.

Statements:

$Z > P, P < M, M < J$

Conclusions:

I. $P < J$

II. $J < Z$

Options :

1. ✓ only Conclusion I follows

2. ✗ only Conclusion II follows

3. ✗ If either Conclusion I or II follows

4. ✗ If neither Conclusion I nor II follows

Question Number : 28 Question Id : 54592723258 Question Type : MCQ Option Shuffling : Yes

Correct Marks : 1 Wrong Marks : 0.25

नीचे दिए गए प्रश्न में, एक कथन के बाद दो निष्कर्ष दिए गए हैं । आपको दिए गए कथन को सत्य मानना है, भले ही वे आम तौर पर ज्ञात तथ्यों के साथ विचरण करते हों और फिर तय करें कि दिए गए कथन में से कौन सा निष्कर्ष तार्किक रूप से अनुसरण करता है।

कथन:

$$Z > P, P < M, M < J$$

निष्कर्ष:

I. $P < J$

II. $J < Z$

Options :

1. ✓ केवल निष्कर्ष I अनुसरण करता है
2. ✗ केवल निष्कर्ष II अनुसरण करता है
3. ✗ या तो निष्कर्ष I या II अनुसरण करता है
4. ✗ न तो निष्कर्ष I और न ही II अनुसरण करता है

Question Number : 29 Question Id : 54592723259 Question Type : MCQ Option Shuffling : Yes
Correct Marks : 1 Wrong Marks : 0.25

Find the wrong term in the given series:

256,280,304,326,352

Options :

1. ✓ 326
2. ✗ 256
3. ✗ 280
4. ✗ 352

Question Number : 29 Question Id : 54592723259 Question Type : MCQ Option Shuffling : Yes

Correct Marks : 1 Wrong Marks : 0.25

दी गई श्रृंखला में गलत पद ज्ञात करें:

256, 280, 304, 326, 352

Options :

1. ✓ 326

2. ✗ 256

3. ✗ 280


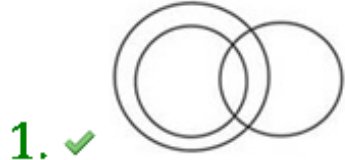
4. ✗ 352

Question Number : 30 Question Id : 54592723260 Question Type : MCQ Option Shuffling : Yes

Correct Marks : 1 Wrong Marks : 0.25

Which of the following diagrams best represents a relationship among Women, Mother and Teacher?

Options :

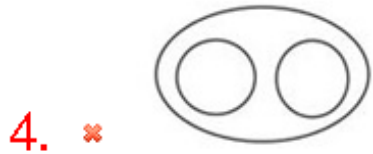

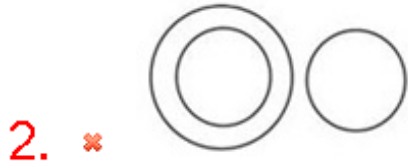


Question Number : 30 Question Id : 54592723260 Question Type : MCQ Option Shuffling : Yes

Correct Marks : 1 Wrong Marks : 0.25

निम्नलिखित में से कौन सा चित्र महिला, माँ और शिक्षक के बीच संबंध का प्रतिनिधित्व करता है?

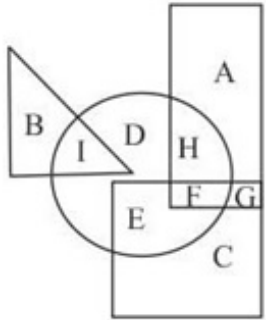
Options :



Question Number : 31 Question Id : 54592723261 Question Type : MCQ Option Shuffling : Yes

Correct Marks : 1 Wrong Marks : 0.25

In the given figure, the circle represents Dentist, rectangle represents Priest, Square represents politician and triangle represents Indians. Which of the following set of letters represents those who are Priest but not Politicians?



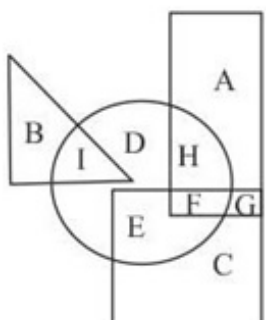
Options :

1. ✓ AH
2. ✗ AF
3. ✗ HFG
4. ✗ DAH

Question Number : 31 Question Id : 54592723261 Question Type : MCQ Option Shuffling : Yes

Correct Marks : 1 Wrong Marks : 0.25

दी गयी आकृतियों में वृत्त, दंत चिकित्सक का प्रतिनिधित्व करता है, आयत, पुजारी का प्रतिनिधित्व करता है, वर्ग, नेता का प्रतिनिधित्व करता है और त्रिकोण , भारतीय का प्रतिनिधित्व करता है तो कौन सा अक्षर उन लोगों का प्रतिनिधित्व करता है जो पुजारी हैं, लेकिन नेता नहीं?



Options :

1. ✓ AH

2. ✗ AF

3. ✗ HFG

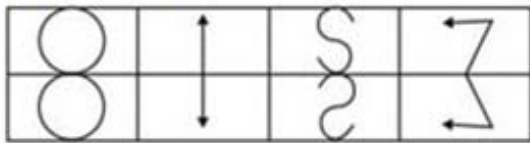
4. ✗ DAH

Question Number : 32 Question Id : 54592723262 Question Type : MCQ Option Shuffling : Yes

Correct Marks : 1 Wrong Marks : 0.25

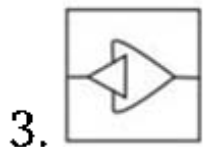
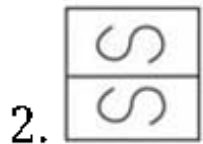
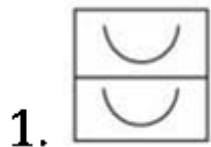
In following question, there is a set of four figures four figures forming the problem figure and four other answer figures marked as (a), (b), (c) and (d) is given. Select the answer figure which possesses the same characteristic.

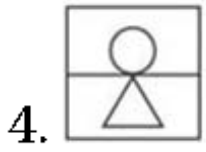
Problem figures



Note: For this question, discrepancy is found in question/answer. So, this question is ignored for all candidates.

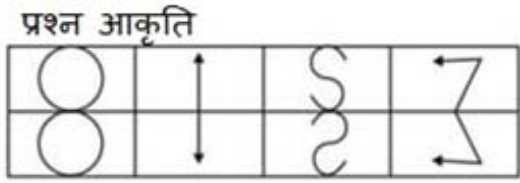
Options :





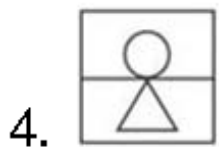
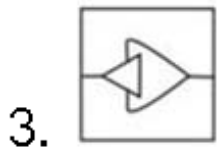
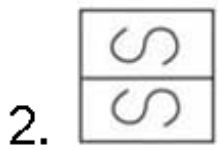
Question Number : 32 Question Id : 54592723262 Question Type : MCQ Option Shuffling : Yes
Correct Marks : 1 Wrong Marks : 0.25

प्रश्न: निम्नलिखित प्रश्न में, चार चित्र प्रश्न आकृति में और चार उत्तर-आकृति में (a), (b), (c) और (d) के रूप में दिए गए हैं। उस उत्तर आकृति का चयन करें जिसमें समान विशेषता हो।



Note: For this question, discrepancy is found in question/answer. So, this question is ignored for all candidates.

Options :

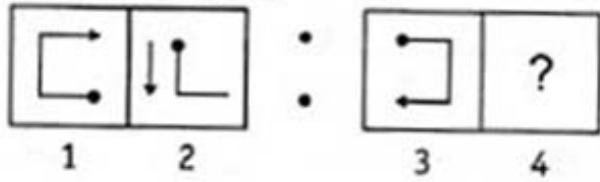


Question Number : 33 Question Id : 54592723263 Question Type : MCQ Option Shuffling : Yes

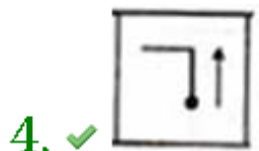
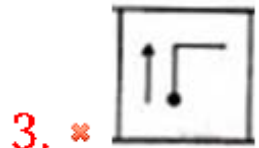
Correct Marks : 1 Wrong Marks : 0.25

The second figure in the first unit of the problem figures bears a certain relationship to the first figure. You have to select that figure from the set of answer figures which would come in the place of question mark (?)

Problem Figures



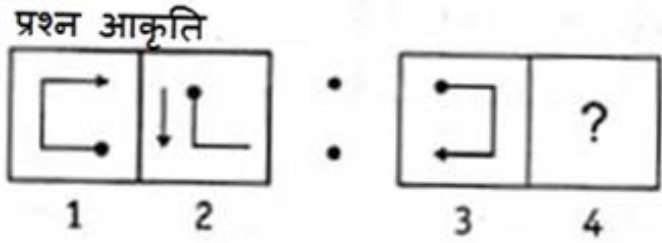
Options :



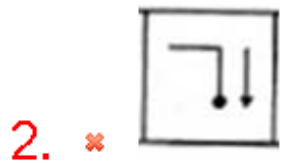
Question Number : 33 Question Id : 54592723263 Question Type : MCQ Option Shuffling : Yes

Correct Marks : 1 Wrong Marks : 0.25

प्रश्न आकृति के पहले सेट की दूसरी आकृति, पहली आकृति से एक निश्चित सम्बन्ध रखती है। आपको उत्तर आकृति के सेट से उस आकृति का चयन करना होगा जो प्रश्न चिह्न (?) के स्थान पर आएगा।

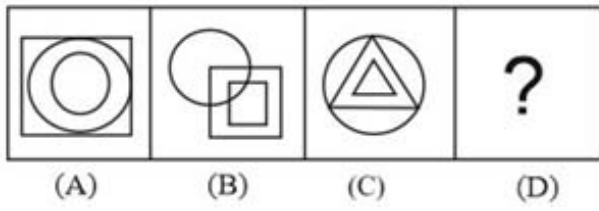


Options :



Question Number : 34 Question Id : 54592723264 Question Type : MCQ Option Shuffling : Yes
 Correct Marks : 1 Wrong Marks : 0.25

Choose an appropriate figure from the four numbered figures for the place of the questions mark (?).

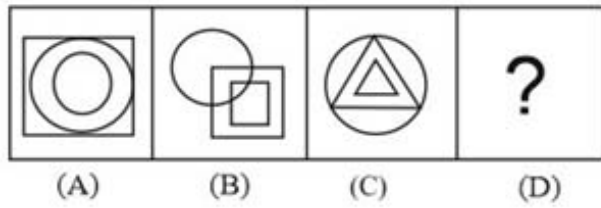


Options :



Question Number : 34 Question Id : 54592723264 Question Type : MCQ Option Shuffling : Yes
Correct Marks : 1 Wrong Marks : 0.25

प्रश्न चिह्न (?) के स्थान पर उत्तर आकृति के रूप में एक उचित आकृति चुनें।



Options :



1. ✘



2. ✘



3. ✘

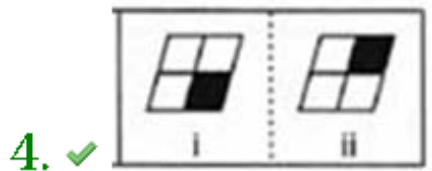
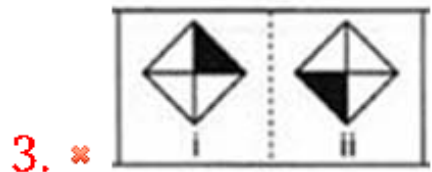
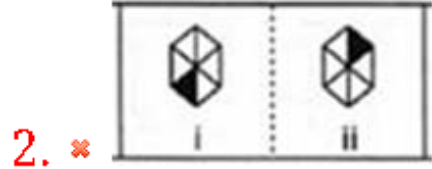
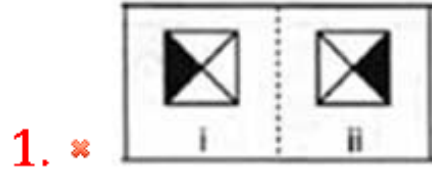


4. ✔

Question Number : 35 Question Id : 54592723265 Question Type : MCQ Option Shuffling : Yes
Correct Marks : 1 Wrong Marks : 0.25

In the following questions, element (ii) is related to element (i) in a particular way in four pairs of figures. Find out the pair of figures in which the element (ii) is not related to element (i).

Options :

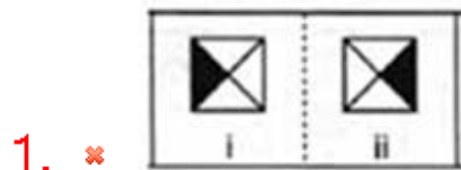


Question Number : 35 Question Id : 54592723265 Question Type : MCQ Option Shuffling : Yes

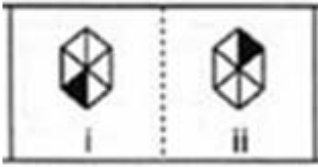
Correct Marks : 1 Wrong Marks : 0.25

निम्नलिखित प्रश्नों में, आकृति के चारो भाग में तत्व (ii) तत्व (i) से एक निश्चित प्रकार से संबंधित है। उन आकृति जोड़ो का पता लगाएं जिनमे तत्व (ii), तत्व (i) से संबंधित नहीं है।

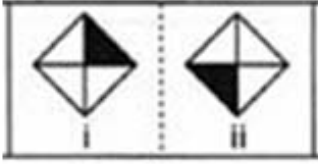
Options :



2. ✘



3. ✘



4. ✔



Question Number : 36 Question Id : 54592723266 Question Type : MCQ Option Shuffling : Yes
 Correct Marks : 1 Wrong Marks : 0.25

Choose the correct water image from the given alternatives.

W O M A N

Options :

1. ✘ WOMAN

2. ✔ NAMOW

3. ✘ MOWAN

4. ✘ NAMOW

Question Number : 36 Question Id : 54592723266 Question Type : MCQ Option Shuffling : Yes
 Correct Marks : 1 Wrong Marks : 0.25

दिए गए विकल्पों में से निम्नलिखित की सही पानी की छवि आकृति ज्ञात कीजिए।

W O M A N

— — — — —

— — — — —

Options :

1. ✘ WOMAN

2. ✔ MOWAN

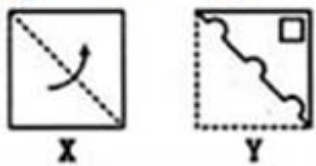
3. ✘ MOWAN

4. ✘ MOWAN

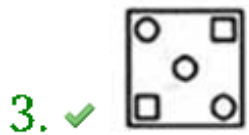
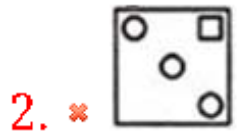
Question Number : 37 Question Id : 54592723267 Question Type : MCQ Option Shuffling : Yes
Correct Marks : 1 Wrong Marks : 0.25

A piece of paper is folded in the manner shown in the question figure(s). Select the figure showing the unfolded pattern after the punches (cut).

Question Figure:



Options :

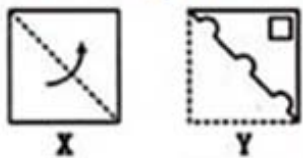


Question Number : 37 Question Id : 54592723267 Question Type : MCQ Option Shuffling : Yes

Correct Marks : 1 Wrong Marks : 0.25

एक कागज के टुकड़े को प्रश्न आकृति में दर्शाए गए तरीके से मोड़ा गया है। कट के बाद प्राप्त फैले हुए (अन फोल्डेड) को दर्शाने वाले आकृति का चयन करें।

प्रश्न आकृति:



Options :



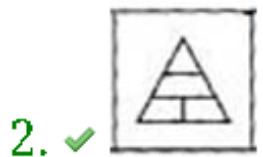


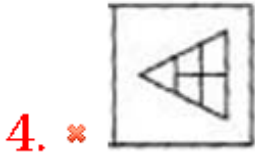
Question Number : 38 Question Id : 54592723268 Question Type : MCQ Option Shuffling : Yes
Correct Marks : 1 Wrong Marks : 0.25

Find out which of the figure (a), (b), (c), (d) can be formed from the pieces given in fig. (X).



Options :





Question Number : 38 Question Id : 54592723268 Question Type : MCQ Option Shuffling : Yes
Correct Marks : 1 Wrong Marks : 0.25

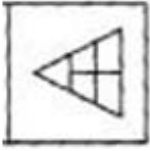
(a), (b), (c), (d) में से कौन सी आकृति, आकृति (X) से बनायीं जा सकती हैं?



Options :



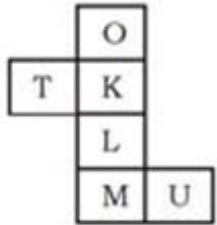
4. ✖



Question Number : 39 Question Id : 54592723269 Question Type : MCQ Option Shuffling : Yes

Correct Marks : 1 Wrong Marks : 0.25

In the following question an unfolded dice is given . From the given alternatives which of the following will be opposite of M ?



Options :

1. ✖ U

2. ✖ T

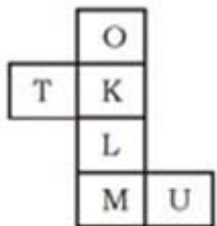
3. ✖ L

4. ✔ K

Question Number : 39 Question Id : 54592723269 Question Type : MCQ Option Shuffling : Yes

Correct Marks : 1 Wrong Marks : 0.25

प्रश्न: नीचे दिए गए प्रश्न में, एक खुला पासा दिया गया है। विकल्पों से देखकर ज्ञात कीजिए कि कौन सा M के विपरीत होगा?



Options :

1. ✖ U

2. ✖ T

3. ✖ L

4. ✔ K

Question Number : 40 Question Id : 54592723270 Question Type : MCQ Option Shuffling : Yes
Correct Marks : 1 Wrong Marks : 0.25

A cube of 3 cm side is divided into smaller cubes of side 1cm. How many times will it be cut to obtain smaller cubes?

Options :

1. ✖ 2

2. ✖ 4

3. ✔ 6

4. ✖ 8

Question Number : 40 Question Id : 54592723270 Question Type : MCQ Option Shuffling : Yes
Correct Marks : 1 Wrong Marks : 0.25

3 सेमी भुजा के एक घन को 1 सेमी भुजा के छोटे घन में विभाजित किया जाता है। छोटे घन को प्राप्त करने के लिए इसे कितनी बार काटा जाएगा?

Options :

1. ✖ 2

2. ✖ 4

3. ✔ 6

4. ✖ 8

General Awareness1

Group Number :	3
Group Id :	5459271153
Group Maximum Duration :	0
Group Minimum Duration :	0

Show Attended Group? :	No
Edit Attended Group? :	No
Break time:	0
Group Marks:	20
Is this Group for Examiner?:	No
Revisit allowed for group Instructions? :	Yes
Maximum Instruction Time:	0
Minimum Instruction Time:	0

General Awareness1

Section Id :	5459271153
Section Number :	1
Section type :	Online
Mandatory or Optional:	Mandatory
Number of Questions:	20
Number of Questions to be attempted:	20
Section Marks:	20

Sub-Section Number:	1
Sub-Section Id:	5459271383
Question Shuffling Allowed :	Yes

Question Number : 41 Question Id : 54592723271 Question Type : MCQ Option Shuffling : Yes
Correct Marks : 1 Wrong Marks : 0.25

Which of the following important terms of Indian Classical dances and their meanings are not correctly matched?

Options :

1. * Tandava - Heroic, bold, vigorous and masculine classification of dance
2. * Lasya - Soft, lyrical, graceful and feminine classification of dance
3. ✓ Satvika - Costume
4. * Vachika - moods and emotions

Question Number : 41 Question Id : 54592723271 Question Type : MCQ Option Shuffling : Yes
Correct Marks : 1 Wrong Marks : 0.25

भारतीय शास्त्रीय नृत्यों के निम्नलिखित महत्वपूर्ण शब्दों और उनके अर्थों में से कौनसा मिलान सही नहीं है?

Options :

1. * तांडव - पुरुषोचित, वीरोचित, निर्भोक और ओजस्वी नृत्य का वर्ग
2. * लास्य - स्त्रीयोचित, कोमल लयात्मक और सुंदर नृत्य का वर्ग
3. ✓ सात्विक - वेशभूषा
4. * वाचिका - भावों और अभिव्यक्तियों

Question Number : 42 Question Id : 54592723272 Question Type : MCQ Option Shuffling : Yes
Correct Marks : 1 Wrong Marks : 0.25

Which Indian festival is mainly celebrated in Punjab by the Punjabis and is also called the harvest festival of Punjab?

Options :

1. * Chhat Puja
2. ✓ Lohri
3. * Ugadi
4. * Bihu

Question Number : 42 Question Id : 54592723272 Question Type : MCQ Option Shuffling : Yes
Correct Marks : 1 Wrong Marks : 0.25

कौनसा भारतीय त्योहार मुख्य रूप से पंजाब में पंजाबियों द्वारा मनाया जाता है और इस त्यौहार को पंजाब की फसल का त्यौहार भी कहा जाता है?

Options :

1. * छट पूजा
2. ✓ लोहड़ी
3. * उगादी
4. * बिहू

Question Number : 43 Question Id : 54592723273 Question Type : MCQ Option Shuffling : Yes
Correct Marks : 1 Wrong Marks : 0.25

The (i)_____ is one of the finest monuments situated in (ii)_____.

Options :

1. ✓ (i) Gingee Fort (ii) Puducherry

2. ✘ (i) Hawa Mahal (ii) Chennai

3. ✘ (i) Charminar (ii) Kolkata

4. ✘ (i) Purana Qila (ii) Bengaluru

Question Number : 43 Question Id : 54592723273 Question Type : MCQ Option Shuffling : Yes
Correct Marks : 1 Wrong Marks : 0.25

(i) _____, (ii) _____ में स्थित उत्कृष्टतम स्मारकों में से एक है।

Options :

1. ✓ (i) जिंजी किला (ii) पुडुचेरी

2. ✘ (i) हवा महल (ii) चेन्नई

3. ✘ (i) चारमीनार (ii) कोलकाता

4. ✘ (i) पुराना किला (ii) बेंगलुरु

Question Number : 44 Question Id : 54592723274 Question Type : MCQ Option Shuffling : Yes
Correct Marks : 1 Wrong Marks : 0.25

The Bhatiali is a folk music of:

Options :

1. ✘ Gujarat

2. ✘ Maharashtra

3. ✓ West Bengal

4. ✘ Tamil Nadu

Question Number : 44 Question Id : 54592723274 Question Type : MCQ Option Shuffling : Yes
Correct Marks : 1 Wrong Marks : 0.25

भटियाली _____ का लोक संगीत है।

Options :

1. ✘ गुजरात

2. ✘ महाराष्ट्र

3. ✓ पश्चिम बंगाल

4. * तमिलनाडु

Question Number : 45 Question Id : 54592723275 Question Type : MCQ Option Shuffling : Yes
Correct Marks : 1 Wrong Marks : 0.25

If the Reserve Bank of India is increasing the Bank Rate and the Repo Rate then the economy is going through:

Options :

1. * Recession
2. ✓ Inflation
3. * Deflation
4. * It can't be determined

Question Number : 45 Question Id : 54592723275 Question Type : MCQ Option Shuffling : Yes
Correct Marks : 1 Wrong Marks : 0.25

यदि भारतीय रिजर्व बैंक, बैंक दर और रेपो दर में वृद्धि कर रही है, तो अर्थव्यवस्था _____ से गुजर रही है।

Options :

1. * मंदी
2. ✓ मुद्रास्फीति
3. * अपस्फीति
4. * यह निर्धारित नहीं किया जा सकता है

Question Number : 46 Question Id : 54592723276 Question Type : MCQ Option Shuffling : Yes
Correct Marks : 1 Wrong Marks : 0.25

Which of the following is a part of the fiscal policy of the government?

- i. Supervising the banks
- ii. Deciding the taxes

Use the codes to give the correct answer.

Options :

1. * Only i

2. ✓ Only ii

3. ✗ Both i and ii

4. ✗ Neither i nor ii

Question Number : 46 Question Id : 54592723276 Question Type : MCQ Option Shuffling : Yes
Correct Marks : 1 Wrong Marks : 0.25

निम्नलिखित में से क्या सरकार की राजकोषीय नीति का एक हिस्सा है?

i. बैंकों का पर्यवेक्षण

ii. कर तय करना

सही उत्तर देने के लिए कूट का उपयोग करें।

Options :

1. ✗ केवल i

2. ✓ केवल ii

3. ✗ i और ii दोनों

4. ✗ न तो i और न ही ii

Question Number : 47 Question Id : 54592723277 Question Type : MCQ Option Shuffling : Yes
Correct Marks : 1 Wrong Marks : 0.25

Which of the following organizations makes recommendations on the decision of MSP?

Options :

1. ✗ Ministry of Finance

2. ✗ CSO

3. ✓ CACP

4. ✗ Both CSO and Ministry of Finance

Question Number : 47 Question Id : 54592723277 Question Type : MCQ Option Shuffling : Yes
Correct Marks : 1 Wrong Marks : 0.25

निम्नलिखित में से कौन सा संगठन एमएसपी के निर्णय पर सिफारिशें देता है?

Options :

1. * वित्त मंत्रालय
2. * सी.एस.ओ. (CSO)
3. ✓ सी.ए.सी.पी. (CACP)
4. * सी.एस.ओ. और वित्त मंत्रालय दोनों

Question Number : 48 Question Id : 54592723278 Question Type : MCQ Option Shuffling : Yes

Correct Marks : 1 Wrong Marks : 0.25

Which of the following statements is incorrect with regard to the reverse osmosis process of purifying water?

Options :

1. * This process can be used for desalination of sea-water
2. * A film of cellulose acetate is generally used as the workable porous membrane in this process
3. ✓ The process of osmosis, if started cannot be reversed in direction
4. * A variety of polymer membranes can be used as membranes in this process

Question Number : 48 Question Id : 54592723278 Question Type : MCQ Option Shuffling : Yes

Correct Marks : 1 Wrong Marks : 0.25

निम्नलिखित में से कौन सा कथन पानी शोधन की प्रतिलोम परासरणप्रक्रिया के संबंध में गलत है?

Options :

1. * इस प्रक्रिया का उपयोग समुद्री जल के विलवणीकरण में किया जाता है

2. * इसके लिए उपयुक्त अर्धपारगम्य झिल्ली के रूप में सामान्यतः सेलूलोस ऐसीटेट की फिल्मका उपयोग किया जाता है
3. ✓ प्रतिलोम परासरण की प्रक्रिया यदि आरम्भ हो जाए तो उसकी दिशा को परिवर्तित नहीं किया जा सकता
4. * इस प्रक्रिया के लिए विभिन्न प्रकार की बहुलकीय झिल्लियों का उपयोग किया जा सकता है

Question Number : 49 Question Id : 54592723279 Question Type : MCQ Option Shuffling : Yes
Correct Marks : 1 Wrong Marks : 0.25

Which of the following is the main reason that diseases like Cholera, Diarrhoea and Dysentery are transmitted?

Options :

1. * Sneezing
2. * Air pollution
3. * Physical contact like touching
4. ✓ Poor sanitation

Question Number : 49 Question Id : 54592723279 Question Type : MCQ Option Shuffling : Yes
Correct Marks : 1 Wrong Marks : 0.25

निम्नलिखित में से हैजा, दस्त और पेचिश जैसी बिमारियों के फैलने का मुख्य कारण क्या है?

Options :

1. * छींकने से
2. * वायु प्रदूषण
3. * शारीरिक संपर्क जैसे स्पर्श
4. ✓ स्वच्छता की खराब व्यवस्था

Question Number : 50 Question Id : 54592723280 Question Type : MCQ Option Shuffling : Yes
Correct Marks : 1 Wrong Marks : 0.25

Through which of the following modes can the transmission of HIV-infection not occur?

Options :

1. * by transfusion of contaminated blood and blood products
2. * by sharing infected needles as in the case of intravenous drug abusers
3. * from infected mother to her child through placenta
4. ✓ from physical contact with an HIV-infected person

Question Number : 50 Question Id : 54592723280 Question Type : MCQ Option Shuffling : Yes

Correct Marks : 1 Wrong Marks : 0.25

निम्नलिखित में से कौनसे माध्यम से एचआईवी का संक्रमण नहीं होता है?

Options :

1. * संदूषित रक्त और रुधिर उत्पादों के आधान से
2. * संक्रमित सुइयों के साझा प्रयोग से जैसाकि अंतः शिरा (इंट्रावेनसद) द्वारा ड्रग का कुप्रयोग करने वालों के मामले में
3. * संक्रमित माँ से अपरा द्वारा उसके बच्चे में
4. ✓ एचआईवी संक्रमित व्यक्ति के साथ शारीरिक संपर्क से

Question Number : 51 Question Id : 54592723281 Question Type : MCQ Option Shuffling : Yes

Correct Marks : 1 Wrong Marks : 0.25

Which of the following is an example of Phylum – Platyhelminthes?

Options :

1. ✓ Tapeworm
2. * Roundworm
3. * Sea Walnut
4. * Earthworm

Question Number : 51 Question Id : 54592723281 Question Type : MCQ Option Shuffling : Yes
Correct Marks : 1 Wrong Marks : 0.25

निम्नलिखित में से कौनसा संघ प्लेटीहैल्मिंथीज का एक उदाहरण है?

Options :

1. ✓ फीताकृमि
2. * गोल कृमि
3. * समुद्री अखरोट
4. * केंचुआ

Question Number : 52 Question Id : 54592723282 Question Type : MCQ Option Shuffling : Yes
Correct Marks : 1 Wrong Marks : 0.25

Which of the following are elemental semiconductors?

Options :

1. * Anthracene and doped pthalocyanines
2. * Copper and Mercury
3. ✓ Silicon and Germanium
4. * Polyaniline and polythiophene

Question Number : 52 Question Id : 54592723282 Question Type : MCQ Option Shuffling : Yes
Correct Marks : 1 Wrong Marks : 0.25

निम्नलिखित में से कौनसे तात्विक अर्धचालक हैं?

Options :

1. * एन्थ्रासीन और मादित थैलोस्यानिस
2. * तांबा और पारा
3. ✓ सिलिकॉन और जर्मेनियम
4. * पाँलीऐनिलीन और पाँलीथायोफीन

Question Number : 53 Question Id : 54592723283 Question Type : MCQ Option Shuffling : Yes
Correct Marks : 1 Wrong Marks : 0.25

Which of the following is a source of protein?

Options :

1. ✖ Rice
2. ✔ Fishes
3. ✖ Wheat
4. ✖ Apple

Question Number : 53 Question Id : 54592723283 Question Type : MCQ Option Shuffling : Yes
Correct Marks : 1 Wrong Marks : 0.25

निम्नलिखित में से कौन प्रोटीन का स्रोत हैं?

Options :

1. ✖ चावल
2. ✔ मछलियाँ
3. ✖ गेहूं
4. ✖ सेब

Question Number : 54 Question Id : 54592723284 Question Type : MCQ Option Shuffling : Yes
Correct Marks : 1 Wrong Marks : 0.25

Which of the following trophic levels possesses the maximum amount of energy?

Options :

1. ✔ Producers
2. ✖ Primary Consumers
3. ✖ Secondary Consumers
4. ✖ Tertiary Consumers

Question Number : 54 Question Id : 54592723284 Question Type : MCQ Option Shuffling : Yes
Correct Marks : 1 Wrong Marks : 0.25

निम्न में से कौन सा पोषी स्तर ऊर्जा की अधिकतम मात्रा रखता है?

Options :

1. ✔ उत्पादक
2. ✖ प्राथमिक उपभोक्ता

3. * द्वितीय उपभोक्ता

4. * तृतीय उपभोक्ता

Question Number : 55 Question Id : 54592723285 Question Type : MCQ Option Shuffling : Yes

Correct Marks : 1 Wrong Marks : 0.25

Which of the following are hygienic practices?

Options :

1. * Throwing trash from moving vehicle

2. * Spitting on road

3. ✓ Brushing teeth

4. * Using same clothes atleast twice

Question Number : 55 Question Id : 54592723285 Question Type : MCQ Option Shuffling : Yes

Correct Marks : 1 Wrong Marks : 0.25

निम्नलिखित में से कौन-से आरोग्य संबंधी क्रिया हैं?

Options :

1. * चलते वाहन से कचरा फेंकना

2. * सड़क पर थूकना

3. ✓ दांतों को मंजन करना

4. * एक ही कपड़े का कम से कम दो बार उपयोग करना

Question Number : 56 Question Id : 54592723286 Question Type : MCQ Option Shuffling : Yes

Correct Marks : 1 Wrong Marks : 0.25

When the primary tributaries of rivers flow parallel to each other and secondary tributaries join them at right angles, what is the pattern called?

Options :

1. * Centripetal

2. ✓ Trellis

3. * Radial

4. * Dendritic

Question Number : 56 Question Id : 54592723286 Question Type : MCQ Option Shuffling : Yes

Correct Marks : 1 Wrong Marks : 0.25

जब मुख्य नदियाँ एक-दूसरे के समांतर बहती हों तथा सहायक नदियाँ उनसे समकोण पर मिलती हों, तो ऐसे प्रतिरूप को क्या कहा जाता है?

Options :

1. * अभिकेन्द्री अपवाह प्रतिरूप
2. ✓ जालीनुमा अपवाह प्रतिरूप
3. * अरीय अपवाह (रेडियल) प्रतिरूप
4. * वृक्षाकार अपवाह प्रतिरूप

Question Number : 57 Question Id : 54592723287 Question Type : MCQ Option Shuffling : Yes

Correct Marks : 1 Wrong Marks : 0.25

Which of the following places is famous for Karewa formations, that are useful for the cultivation of Zafran?

Options :

1. ✓ Kashmir Himalayas
2. * South Asian Glaciers
3. * Darjeeling and Sikkim Himalayas
4. * Eastern hills and mountains

Question Number : 57 Question Id : 54592723287 Question Type : MCQ Option Shuffling : Yes

Correct Marks : 1 Wrong Marks : 0.25

निम्नलिखित में से कौनसा स्थान करेवा के लिए प्रसिद्ध है, जहाँ जाफरान की खेती की जाती है?

Options :

1. ✓ कश्मीर हिमालय
2. * दक्षिण एशियाई ग्लेशियर
3. * दार्जिलिंग और सिक्किम हिमालय
4. * पूर्वी पहाड़ियां और पर्वत

Question Number : 58 Question Id : 54592723288 Question Type : MCQ Option Shuffling : Yes

Correct Marks : 1 Wrong Marks : 0.25

Chemically, the (i) _____ are rich in lime, iron, magnesia and alumina. They also contain (ii)_____. But they lack in phosphorous, nitrogen and organic matter.

Options :

1. * (i) alluvial soil (ii) potash
2. * (i) black soil (ii) sulphur
3. ✓ (i) black soil (ii) potash
4. * (i) alluvial soil (ii) sulphur

Question Number : 58 Question Id : 54592723288 Question Type : MCQ Option Shuffling : Yes

Correct Marks : 1 Wrong Marks : 0.25

रासायनिक दृष्टि से (i) _____ में चूने, लौह, मैग्नीशिया तथा ऐलुमिना के तत्त्व अधिक मात्रा में पाए जाते हैं। इनमें (ii)_____ की मात्रा भी पाई जाती है। लेकिन इनमें फ़ास्फ़रोस, नाइट्रोजन और जैव पदार्थों की कमी होती है।

Options :

1. * (i) जलोढ़ मृदा (ii) पोटैश
2. * (i) काली मृदा (ii) सल्फर
3. ✓ (i) काली मृदा (ii) पोटैश
4. * (i) जलोढ़ मृदा (ii) गंधक

Question Number : 59 Question Id : 54592723289 Question Type : MCQ Option Shuffling : Yes

Correct Marks : 1 Wrong Marks : 0.25

A crop is grown in kharif season in semi-arid areas of the country. India ranks second in the world in the production of this crop after China after losing a large proportion of this crop's growing area to Pakistan during partition. Which crop is being talked about?

Options :

1. ✖ Wheat
2. ✔ Cotton
3. ✖ Sugarcane
4. ✖ Rice

Question Number : 59 Question Id : 54592723289 Question Type : MCQ Option Shuffling : Yes

Correct Marks : 1 Wrong Marks : 0.25

यह एक फसल है जो देश के अर्ध-शुष्क भागों में खरीफ ऋतु में बोई जाती है। इस फसल का बहुत बड़ा उत्पादन क्षेत्र देश विभाजन के समय पाकिस्तान में चला जाने के पश्चात भारत का इस फसल के उत्पादन में विश्व में चीन के पश्चात दूसरा स्थान है। किस फसल की बात हो रही है?

Options :

1. ✖ गेहूं
2. ✔ कपास
3. ✖ गन्ना
4. ✖ चावल

Question Number : 60 Question Id : 54592723290 Question Type : MCQ Option Shuffling : Yes

Correct Marks : 1 Wrong Marks : 0.25

Which of the following decades are referred to as the period of population explosion in India, which was caused by a rapid fall in the mortality rate but a high fertility rate of population in the country?

Options :

1. ✔ 1951-1981
2. ✖ 1971-1991
3. ✖ 1961-1971

4. * 1991-2001

Question Number : 60 Question Id : 54592723290 Question Type : MCQ Option Shuffling : Yes
Correct Marks : 1 Wrong Marks : 0.25

निम्नलिखित में से कौनसे दशक को भारत में जनसंख्या विस्फोट की अवधि के रूप में जाना जाता है; जो देश की कम मृत्यु दर और जनसंख्या की उच्च प्रजनन दर के कारण हुआ?

Options :

1. ✓ 1951-1981
2. * 1971-1991
3. * 1961-1971
4. * 1991-2001

General Awareness2

Group Number :	4
Group Id :	5459271154
Group Maximum Duration :	0
Group Minimum Duration :	0
Show Attended Group? :	No
Edit Attended Group? :	No
Break time:	0
Group Marks:	20
Is this Group for Examiner? :	No
Revisit allowed for group Instructions? :	Yes
Maximum Instruction Time:	0
Minimum Instruction Time:	0

General Awareness2

Section Id :	5459271154
Section Number :	1
Section type :	Online
Mandatory or Optional:	Mandatory
Number of Questions:	20
Number of Questions to be attempted:	20
Section Marks:	20

Sub-Section Number: 1
Sub-Section Id: 5459271384
Question Shuffling Allowed : Yes

Question Number : 61 Question Id : 54592723291 Question Type : MCQ Option Shuffling : Yes
Correct Marks : 1 Wrong Marks : 0.25

India with its area of (i)___ million sq. km accounts for (ii)___ per cent of the world's land surface area.

Options :

1. ✓ (i) 3.28 (ii) 2.4
2. ✗ (i) 5.28 (ii) 2.4
3. ✗ (i) 3.28 (ii) 5.2
4. ✗ (i) 1.28 (ii) 3.4

Question Number : 61 Question Id : 54592723291 Question Type : MCQ Option Shuffling : Yes
Correct Marks : 1 Wrong Marks : 0.25

भारत का क्षेत्रफल (i)___ लाख वर्ग किलोमीटर है जो विश्व के स्थलीय धरातल का (ii)___ प्रतिशत भाग है।

Options :

1. ✓ (i) 3.28 (ii) 2.4
2. ✗ (i) 5.28 (ii) 2.4
3. ✗ (i) 3.28 (ii) 5.2
4. ✗ (i) 1.28 (ii) 3.4

Question Number : 62 Question Id : 54592723292 Question Type : MCQ Option Shuffling : Yes
Correct Marks : 1 Wrong Marks : 0.25

Read the following verse carefully and identify its source from the options given below:

“Bring, O strong one, this sacrifice of ours to the gods, O wise one, as a liberal giver. Bestow on us, O priest, abundant food. Agni, obtain, by sacrificing, mighty wealth for us.”

Options :

1. ✗ The Upanishadas

2. ✓ The Rigvedas

3. ✘ The Tripitaka

4. ✘ The UttaradhyayanaSutta

Question Number : 62 Question Id : 54592723292 Question Type : MCQ Option Shuffling : Yes

Correct Marks : 1 Wrong Marks : 0.25

निम्नलिखित छंद ध्यानपूर्वक पढ़ें एवं दिए गए विकल्पों में से इसके स्रोत का पहचान करें।

“हे शक्तिशाली देव, आप हमारी आहुति देवताओं तक ले जाएँ। हे बुद्धिमंत, आप तो सबके दाता हैं। हे पुरोहित, हमे खूब सारे खाद्य पदार्थ दें”।

Options :

1. ✘ उपनिषद

2. ✓ ऋग्वेद

3. ✘ त्रिपिटक

4. ✘ उत्तराध्ययन सूत्रा

Question Number : 63 Question Id : 54592723293 Question Type : MCQ Option Shuffling : Yes

Correct Marks : 1 Wrong Marks : 0.25

Kitab-ul-Hind is written by (i)___ in (ii)___ language.

Options :

1. ✘ (i) Ibn Batuta (ii) Arabic

2. ✓ (i) Al Biruni (ii) Arabic

3. ✘ (i) Al Biruni (ii) Persian

4. ✘ (i) Ibn Batuta (ii) Persian

Question Number : 63 Question Id : 54592723293 Question Type : MCQ Option Shuffling : Yes

Correct Marks : 1 Wrong Marks : 0.25

(i)___ द्वारा लिखी गयी किताब-उल-हिन्द (ii)___ भाषा में है।

Options :

1. ✘ (i) इब्न बतूता (ii) अरबी
2. ✔ (i) अल बिरूनी (ii) अरबी
3. ✘ (i) अल बिरूनी (ii) फारसी
4. ✘ (i) इब्न बतूता (ii) फ़ारसी

Question Number : 64 Question Id : 54592723294 Question Type : MCQ Option Shuffling : Yes

Correct Marks : 1 Wrong Marks : 0.25

Abu'l Hasan al Hujwiri's book in Persian called the (i)___ is an important book for (ii)___.

Options :

1. ✘ (i) Bahishti Zewar (ii) Medieval politics
2. ✘ (i) Kashf- ul-Mahjub (ii) Medieval politics
3. ✘ (i) Bahishti Zewar (ii) Sufism
4. ✔ (i) Kashf- ul-Mahjub (ii) Sufism

Question Number : 64 Question Id : 54592723294 Question Type : MCQ Option Shuffling : Yes

Correct Marks : 1 Wrong Marks : 0.25

अबुल हसन अल हुजविरी ने फारसी में (i)___ किताब लिखी जो (ii) _____ के लिए बहुत महत्त्वपूर्ण है।

Options :

1. ✘ (i) बहिश्त-इ-ज़ेवर (ii) मध्यकालीन राजनीति
2. ✘ (i) कश्फ-उल-महजुब (ii) मध्यकालीन राजनीति
3. ✘ (i) बहिश्त-इ-ज़ेवर (ii) सूफीवाद
4. ✔ (i) कश्फ-उल-महजुब (ii) सूफीवाद

Question Number : 65 Question Id : 54592723295 Question Type : MCQ Option Shuffling : Yes

Correct Marks : 1 Wrong Marks : 0.25

The amara-nayaka system was a major political innovation of the _____.

Options :

1. * Pala Empire
2. * Mauryan Empire
3. ✓ Vijaynagara Empire
4. * Gupta empire

Question Number : 65 Question Id : 54592723295 Question Type : MCQ Option Shuffling : Yes
Correct Marks : 1 Wrong Marks : 0.25

अमर-नायक प्रणाली _____ की एक प्रमुख राजनीतिक खोज थी।

Options :

1. * पाल साम्राज्य
2. * मौर्य साम्राज्य
3. ✓ विजयनगर साम्राज्य
4. * गुप्त साम्राज्य

Question Number : 66 Question Id : 54592723296 Question Type : MCQ Option Shuffling : Yes
Correct Marks : 1 Wrong Marks : 0.25

Subsidiary Alliance introduced by (i)___ in Awadh in (ii)___ .

Note: For this question, discrepancy is found in question/answer. So, this question is ignored for all candidates.

Options :

1. (i) Lord Wellesley (ii) 1856
2. (i) Lord Dalhousie (ii) 1856
3. (i) Lord Wellesley (ii) 1805
4. (i) Lord Dalhousie (ii) 1805

Question Number : 66 Question Id : 54592723296 Question Type : MCQ Option Shuffling : Yes
Correct Marks : 1 Wrong Marks : 0.25

अवध में (i)___ द्वारा (ii)___ में सहायक संधि लागू की गई थी।

Note: For this question, discrepancy is found in question/answer. So, this question is ignored for all candidates.

Options :

1. (i) लॉर्ड वेलेजली (ii) 1856

2. (i) लॉर्ड डलहौजी (ii) 1856

3. (i) लॉर्ड वेलेजली (ii) 1805

4. (i) लॉर्ड डलहौजी (ii) 1805

Question Number : 67 Question Id : 54592723297 Question Type : MCQ Option Shuffling : Yes

Correct Marks : 1 Wrong Marks : 0.25

Who was elected by the mutinous 22nd Native Infantry as their leader during the Revolt of 1857?

Options :

1. * Mangal Panday

2. ✓ Maulvi Ahmadullah Shah

3. * Shah Mal

4. * Nana Saheb Peshwa

Question Number : 67 Question Id : 54592723297 Question Type : MCQ Option Shuffling : Yes

Correct Marks : 1 Wrong Marks : 0.25

1857 के विद्रोह के दौरान 22वीं नेटिव इन्फैंट्री(देशी पैदल सेना) के विद्रोहियों ने किसे अपना नेता चुन लिया था?

Options :

1. * मंगल पांडे

2. ✓ मौलवी अहमदुल्लाह शाह

3. * शाह मल

4. * नाना साहिब पेशवा

Question Number : 68 Question Id : 54592723298 Question Type : MCQ Option Shuffling : Yes

Correct Marks : 1 Wrong Marks : 0.25

As of August 2019, the Governor of (i) _____ is (ii)_____.

Options :

1. ✓ (i) Andhra Pradesh and Telangana (ii) Ekkadu Srinivasan Lakshmi narasimhan

2. * (i) Madhya Pradesh and Chhattisgarh (ii) Jagdish Mukhi
3. * (i) Assam and Mizoram (ii) Kaptan Singh Solanki
4. * (i) Odisha and West Bengal (ii) Tathagata Roy

Question Number : 68 Question Id : 54592723298 Question Type : MCQ Option Shuffling : Yes
Correct Marks : 1 Wrong Marks : 0.25

अगस्त 2019 तक उपलब्ध जानकारी के अनुसार (i)_____ के राज्यपाल
(ii)_____ हैं।

Options :

1. ✓ (i) आंध्र प्रदेश और तेलंगाना (ii) एक्काडु श्रीनिवासन लक्ष्मी नरसिम्हन
2. * (i) मध्य प्रदेश और छत्तीसगढ़ (ii) जगदीश मुखी
3. * (i) असम और मिजोरम (ii) कप्तान सिंह सोलंकी
4. * (i) ओडिशा और पश्चिम बंगाल (ii) तथागत रॉय

Question Number : 69 Question Id : 54592723299 Question Type : MCQ Option Shuffling : Yes
Correct Marks : 1 Wrong Marks : 0.25

Admiral Karambir Singh assumed command of the Indian Navy on (i) _____ as the (ii)_____ Chief of the Naval Staff.

Options :

1. * (i) 15th January 2016, (ii) 21st
2. ✓ (i) 31st may 2019, (ii) 24
3. * (i) 3rd October 2017, (ii) 13th
4. * (i) 19th August 2018 , (ii) 20th

Question Number : 69 Question Id : 54592723299 Question Type : MCQ Option Shuffling : Yes
Correct Marks : 1 Wrong Marks : 0.25

एडमिरल करमवीर सिंह ने (i)_____ को (ii)_____ नौसेना स्टाफ के प्रमुख के रूप में भारतीय नौसेना की कमान संभाली।

Options :

1. ✖ (i) 15 जनवरी 2016, (ii) 21 वीं
2. ✔ (i) 31 मई 2019, (ii) 24
3. ✖ (i) 3 अक्टूबर 2017, (ii) 13 वां
4. ✖ (i) 19 अगस्त 2018, (ii) 20 वीं

Question Number : 70 Question Id : 54592723300 Question Type : MCQ Option Shuffling : Yes
Correct Marks : 1 Wrong Marks : 0.25

In the year 2019, the President of India had approved conferment of 112 Padma Awards comprising of (i) _____ Padma Vibhushan, (ii) _____ Padma Bhushan and (iii) _____ Padma Shri Awards.

Options :

1. ✖ (i) 4 (ii) 8 (iii) 100
2. ✔ (i) 4 (ii) 14 (iii) 94
3. ✖ (i) 10 (ii) 2 (iii) 100
4. ✖ (i) 15 (ii) 9 (iii) 88

Question Number : 70 Question Id : 54592723300 Question Type : MCQ Option Shuffling : Yes
Correct Marks : 1 Wrong Marks : 0.25

वर्ष 2019 में, भारत के राष्ट्रपति ने 112 पद्म पुरस्कार प्रदान करने को मंजूरी दी थी, जिसमें (i) _____ पद्म विभूषण, (ii) _____ पद्म भूषण और (iii) _____ पद्मश्री पुरस्कार शामिल थे।

Options :

1. ✖ (i) 4 (ii) 8 (iii) 100
2. ✔ (i) 4 (ii) 14 (iii) 94
3. ✖ (i) 10 (ii) 2 (iii) 100
4. ✖ (i) 15 (ii) 9 (iii) 88

Question Number : 71 Question Id : 54592723301 Question Type : MCQ Option Shuffling : Yes
Correct Marks : 1 Wrong Marks : 0.25

What is Rachna Khaira well-known for?

Note: For this question, discrepancy is found in question/answer. So, this question is ignored for all candidates.

Options :

1. Poetry
2. Journalism
3. Scientific Research
4. Sports Medicine

Question Number : 71 Question Id : 54592723301 Question Type : MCQ Option Shuffling : Yes

Correct Marks : 1 Wrong Marks : 0.25

रचना खैरा किस लिए जानी जाती हैं?

Note: For this question, discrepancy is found in question/answer. So, this question is ignored for all candidates.

Options :

1. कविता
2. सूरदास
3. कालिदास
4. जयदेव

Question Number : 72 Question Id : 54592723302 Question Type : MCQ Option Shuffling : Yes

Correct Marks : 1 Wrong Marks : 0.25

The World Trade Organisation was founded in the year _____.

Note: For this question, discrepancy is found in question/answer. So, this question is ignored for all candidates.

Options :

1. 1992
2. 1995
3. 1996
4. 1998

Question Number : 72 Question Id : 54592723302 Question Type : MCQ Option Shuffling : Yes

Correct Marks : 1 Wrong Marks : 0.25

विश्व व्यापार संगठन की स्थापना _____ में हुई थी।

Note: For this question, discrepancy is found in question/answer. So, this question is ignored for all candidates.

Options :

1. 1992
2. पत्रकारिता
3. साहा इंस्टीट्यूट ऑफ न्यूक्लियर फिजिक्स, कोलकाता
4. बोस इंस्टीट्यूट, कोलकाता

Question Number : 73 Question Id : 54592723303 Question Type : MCQ Option Shuffling : Yes

Correct Marks : 1 Wrong Marks : 0.25

Which of the following scientists and their invention is incorrectly matched?

Note: For this question, discrepancy is found in question/answer. So, this question is ignored for all candidates.

Options :

1. Alexander Fleming - Penicillin
2. Louis Pasteur - Vaccination
3. Michael Faraday – Electromagnetic induction
4. Otto von Guericke – Electric motor

Question Number : 73 Question Id : 54592723303 Question Type : MCQ Option Shuffling : Yes

Correct Marks : 1 Wrong Marks : 0.25

निम्नलिखित में से कौन सा वैज्ञानिक और उनका आविष्कार गलत रूप से मेल खाता है?

Note: For this question, discrepancy is found in question/answer. So, this question is ignored for all candidates.

Options :

1. अलेक्जेंडर फ्लेमिंग - पेनिसिलिन
2. 1995
3. वैज्ञानिक अनुसंधान

4. क्रीडा औषधि

Question Number : 74 Question Id : 54592723304 Question Type : MCQ Option Shuffling : Yes
Correct Marks : 1 Wrong Marks : 0.25

Which of the following parts of the Indian Constitution is related to the Electoral System of the country?

Note: For this question, discrepancy is found in question/answer. So, this question is ignored for all candidates.

Options :

1. Part XIII
2. Part XIV
3. Part XV
4. Part XVI

Question Number : 74 Question Id : 54592723304 Question Type : MCQ Option Shuffling : Yes
Correct Marks : 1 Wrong Marks : 0.25

भारतीय संविधान के निम्नलिखित में से कौन सा भाग देश की चुनावी प्रणाली से संबंधित है?

Note: For this question, discrepancy is found in question/answer. So, this question is ignored for all candidates.

Options :

1. भाग XIII
2. लुईस पाश्चर - टीकाकरण
3. 1996
4. 1998

Question Number : 75 Question Id : 54592723305 Question Type : MCQ Option Shuffling : Yes
Correct Marks : 1 Wrong Marks : 0.25

In which year did the Indian Government announce the “abolition” of all Groups of Ministers (GoMs) and Empowered Groups of Ministers (EGoMs) “for greater accountability and empowerment”?

Note: For this question, discrepancy is found in question/answer. So, this question is ignored for all candidates.

Options :

1. 2011
2. 2012
3. 2013
4. 2014

Question Number : 75 Question Id : 54592723305 Question Type : MCQ Option Shuffling : Yes

Correct Marks : 1 Wrong Marks : 0.25

किस वर्ष भारत सरकार ने सभी मंत्रियों के समूह (जीओएम) और मंत्रियों के अधिकार प्राप्त समूहों (ईजीओएम) के “उन्मूलन” की घोषणा “अधिक जवाबदेही और सशक्तिकरण” के लिए की थी?

Note: For this question, discrepancy is found in question/answer. So, this question is ignored for all candidates.

Options :

1. 2011
2. भाग XIV
3. माइकल फैराडे - विद्युत चुम्बकीय प्रेरण
4. ओट्टो वॉन गुरिके - इलेक्ट्रिक मोटर

Question Number : 76 Question Id : 54592723306 Question Type : MCQ Option Shuffling : Yes

Correct Marks : 1 Wrong Marks : 0.25

Choose the correct statement regarding the duties of the Indian Constituent Assembly?

Note: For this question, discrepancy is found in question/answer. So, this question is ignored for all candidates.

Options :

1. It ratified the India's membership of the Commonwealth in May 1949
2. It adopted the national song on January 24, 1947
3. It adopted the national flag on July 22, 1948

4. It adopted the national anthem on January 24, 1947

Question Number : 76 Question Id : 54592723306 Question Type : MCQ Option Shuffling : Yes

Correct Marks : 1 Wrong Marks : 0.25

भारतीय संविधान सभा के कर्तव्यों के संबंध में सही कथन चुनें?

Note: For this question, discrepancy is found in question/answer. So, this question is ignored for all candidates.

Options :

1. इसने मई 1949 में राष्ट्रमंडल की भारत की सदस्यता की पुष्टि की
2. 2012
3. भाग XV
4. भाग XVI

Question Number : 77 Question Id : 54592723307 Question Type : MCQ Option Shuffling : Yes

Correct Marks : 1 Wrong Marks : 0.25

Which of the following Acts is also known as the Act of the Settlement?

Note: For this question, discrepancy is found in question/answer. So, this question is ignored for all candidates.

Options :

1. Regulating Act of 1773
2. Amending Act of 1781
3. Charter Act of 1833
4. Charter Act of 1853

Question Number : 77 Question Id : 54592723307 Question Type : MCQ Option Shuffling : Yes

Correct Marks : 1 Wrong Marks : 0.25

निम्नलिखित में से किसे एक्ट ऑफ़ सेटलमेंट के रूप में भी जाना जाता है?

Note: For this question, discrepancy is found in question/answer. So, this question is ignored for all candidates.

Options :

1. 1773 का विनियमन अधिनियम

2. इसने 24 जनवरी, 1947 को राष्ट्रीय गीत को अपनाया
3. 2013
4. 2014

Question Number : 78 Question Id : 54592723308 Question Type : MCQ Option Shuffling : Yes
Correct Marks : 1 Wrong Marks : 0.25

Indian athlete Dutee Chand is a/an:

Note: For this question, discrepancy is found in question/answer. So, this question is ignored for all candidates.

Options :

1. Boxer
2. Wrestler
3. Sprinter
4. Archer

Question Number : 78 Question Id : 54592723308 Question Type : MCQ Option Shuffling : Yes
Correct Marks : 1 Wrong Marks : 0.25

भारतीय एथलीट दुती चंद एक _____ है।

Note: For this question, discrepancy is found in question/answer. So, this question is ignored for all candidates.

Options :

1. मुक्केबाज़
2. 1781 का संशोधन अधिनियम
3. इसने 22 जुलाई, 1948 को राष्ट्रीय ध्वज अपनाया
4. इसने 24 जनवरी, 1947 को राष्ट्रगान को अपनाया

Question Number : 79 Question Id : 54592723309 Question Type : MCQ Option Shuffling : Yes
Correct Marks : 1 Wrong Marks : 0.25

Who out of the following is the head coach of the Indian Women's Football team?

Note: For this question, discrepancy is found in question/answer. So, this question is ignored for all candidates.

Options :

1. Maymol Rocky
2. Aditi Chauhan
3. Sasmita Malik
4. Oinam Bembem Devi

Question Number : 79 Question Id : 54592723309 Question Type : MCQ Option Shuffling : Yes
Correct Marks : 1 Wrong Marks : 0.25

निम्नलिखित में से कौन भारतीय महिला फुटबॉल टीम के मुख्य प्रशिक्षक हैं?

Note: For this question, discrepancy is found in question/answer. So, this question is ignored for all candidates.

Options :

1. मेमोल रॉकी
2. पहलवान
3. 1833 का विशेषाधिकार अधिनियम
4. 1853 का विशेषाधिकार अधिनियम

Question Number : 80 Question Id : 54592723310 Question Type : MCQ Option Shuffling : Yes
Correct Marks : 1 Wrong Marks : 0.25

Who has the record of making the highest individual score in an ICC World Cup?

Note: For this question, discrepancy is found in question/answer. So, this question is ignored for all candidates.

Options :

1. Chris Gayle
2. Martin Gupthill
3. Sachin Tendulkar
4. Saeed Anwar

Question Number : 80 Question Id : 54592723310 Question Type : MCQ Option Shuffling : Yes
Correct Marks : 1 Wrong Marks : 0.25

आईसीसी विश्व कप में सर्वाधिक व्यक्तिगत स्कोर बनाने का रिकॉर्ड किसके पास है?

Note: For this question, discrepancy is found in question/answer. So, this question is ignored for all candidates.

Options :

1. क्रिस गेल
2. अदिति चौहान
3. धावक
4. धनुर्धर

Arithmetic Ability1

Group Number :	5
Group Id :	5459271155
Group Maximum Duration :	0
Group Minimum Duration :	0
Show Attended Group? :	No
Edit Attended Group? :	No
Break time:	0
Group Marks:	20
Is this Group for Examiner? :	No
Revisit allowed for group Instructions? :	Yes
Maximum Instruction Time:	0
Minimum Instruction Time:	0

Arithmetic Ability1

Section Id :	5459271155
Section Number :	1
Section type :	Online
Mandatory or Optional:	Mandatory
Number of Questions:	20
Number of Questions to be attempted:	20
Section Marks:	20

Sub-Section Number:	1
Sub-Section Id:	5459271385
Question Shuffling Allowed :	Yes

Correct Marks : 1 Wrong Marks : 0.25

What should come in place of the question mark (?) in the following question?

$$7.5 \times 0.9 \times 14.4 = ?$$

Note: For this question, discrepancy is found in question/answer. So, this question is ignored for all candidates.

Options :

1. 48.6
2. 91.44
3. 97.2
4. 94.95

Question Number : 81 Question Id : 54592723311 Question Type : MCQ Option Shuffling : Yes

Correct Marks : 1 Wrong Marks : 0.25

निम्नलिखित प्रश्न में प्रश्नवाचक चिन्ह (?) के स्थान पर क्या आना चाहिए?

$$7.5 \times 0.9 \times 14.4 = ?$$

Note: For this question, discrepancy is found in question/answer. So, this question is ignored for all candidates.

Options :

1. 48.6
2. मार्टिन गप्टिल
3. सस्मिता मलिक
4. ओइनम बेमबेम देवी

Question Number : 82 Question Id : 54592723312 Question Type : MCQ Option Shuffling : Yes

Correct Marks : 1 Wrong Marks : 0.25

What should come in place of the question mark (?) in the following question?

$$221 \times 650 + 442 \times 175 = ?$$

Note: For this question, discrepancy is found in question/answer. So, this question is ignored for all candidates.

Options :

1. 236000
2. 228000
3. 216000
4. 221000

Question Number : 82 Question Id : 54592723312 Question Type : MCQ Option Shuffling : Yes

Correct Marks : 1 Wrong Marks : 0.25

निम्नलिखित प्रश्न में प्रश्नवाचक चिन्ह (?) के स्थान पर क्या आना चाहिए?

$$221 \times 650 + 442 \times 175 = ?$$

Note: For this question, discrepancy is found in question/answer. So, this question is ignored for all candidates.

Options :

1. 236000
2. 228000
3. सचिन तेंदुलकर
4. सईद अनवर

Question Number : 83 Question Id : 54592723313 Question Type : MCQ Option Shuffling : Yes

Correct Marks : 1 Wrong Marks : 0.25

What approximate value will come in place of the question mark?

$$\frac{989}{34} \div \frac{65}{869} \times \frac{515}{207} = ?$$

Options :

1. ✖ 870

2. ✖ 770

3. ✔ 970

4. ✖ 1070

Question Number : 83 Question Id : 54592723313 Question Type : MCQ Option Shuffling : Yes
Correct Marks : 1 Wrong Marks : 0.25

प्रश्नवाचक चिन्ह (?) के स्थान पर लगभग कौन सा मान आएगा?

$$\frac{989}{34} \div \frac{65}{869} \times \frac{515}{207} = ?$$

Options :

1. ✖ 870

2. ✖ 770

3. ✔ 970

4. ✖ 1070

Question Number : 84 Question Id : 54592723314 Question Type : MCQ Option Shuffling : Yes
Correct Marks : 1 Wrong Marks : 0.25

What should come in place of the question mark (?) in the following question?

$$3\frac{5}{6} + 6\frac{1}{7} - 2\frac{1}{3} - 1\frac{1}{2} = ?$$

Options :

1. ✓ $6\frac{1}{7}$

2. ✗ $6\frac{1}{21}$

3. ✗ $6\frac{1}{14}$

4. ✗ $6\frac{5}{28}$

Question Number : 84 Question Id : 54592723314 Question Type : MCQ Option Shuffling : Yes

Correct Marks : 1 Wrong Marks : 0.25

निम्नलिखित प्रश्न में प्रश्नवाचक चिन्ह (?) के स्थान पर क्या आना चाहिए?

$$3\frac{5}{6} + 6\frac{1}{7} - 2\frac{1}{3} - 1\frac{1}{2} = ?$$

Options :

1. ✓ $6\frac{1}{7}$

2. ✗ $6\frac{1}{21}$

3. ✗ $6\frac{1}{14}$

4. ✗ $6\frac{5}{28}$

Question Number : 85 Question Id : 54592723315 Question Type : MCQ Option Shuffling : Yes

Correct Marks : 1 Wrong Marks : 0.25

What should come in place of the question mark (?) in the following question?

$$3 \times [3 + \{3 \times (3 + (3 \times 3 \times 3 \div 3))\}] = ?$$

Note: For this question, discrepancy is found in question/answer. So, this question is ignored for all candidates.

Options :

1. 117
2. 98
3. 110
4. 108

Question Number : 85 Question Id : 54592723315 Question Type : MCQ Option Shuffling : Yes

Correct Marks : 1 Wrong Marks : 0.25

निम्नलिखित प्रश्न में प्रश्नवाचक चिन्ह (?) के स्थान पर क्या आना चाहिए?

$$3 \times [3 + \{3 \times (3 + (33 \div 3))\}] = ?$$

Note: For this question, discrepancy is found in question/answer. So, this question is ignored for all candidates.

Options :

1. 117
2. 98
3. 110
4. 108

Question Number : 86 Question Id : 54592723316 Question Type : MCQ Option Shuffling : Yes

Correct Marks : 1 Wrong Marks : 0.25

What should come in place of question mark (?) in the following questions?

$$55 \text{ percent of } 200 + ? = 22 \text{ percent of } 400 + 6 \text{ percent of } 450$$

Options :

1. ✖ 4

2. ✖ 3

3. ✔ 5

4. ✖ 6

Question Number : 86 Question Id : 54592723316 Question Type : MCQ Option Shuffling : Yes

Correct Marks : 1 Wrong Marks : 0.25

निम्नलिखित प्रश्न में प्रश्न चिन्ह (?) के स्थान पर क्या आना चाहिए?

$$55 \text{ percent of } 200 + ? = 22 \text{ percent of } 400 + 6 \text{ percent of } 450$$

Options :

1. ✖ 4

2. ✖ 3

3. ✔ 5

4. ✖ 6

Question Number : 87 Question Id : 54592723317 Question Type : MCQ Option Shuffling : Yes

Correct Marks : 1 Wrong Marks : 0.25

LCM of (480, 360, 320) is:

Options :

1. ✖ 1440

2. ✔ 2880

3. ✖ 2160

4. ✖ 1800

Question Number : 87 Question Id : 54592723317 Question Type : MCQ Option Shuffling : Yes
Correct Marks : 1 Wrong Marks : 0.25

(480, 360, 320) का लघुतम समापवर्तक है:

Options :

1. ✖ 1440

2. ✔ 2880

3. ✖ 2160

4. ✖ 1800

Question Number : 88 Question Id : 54592723318 Question Type : MCQ Option Shuffling : Yes
Correct Marks : 1 Wrong Marks : 0.25

Find the least number which is divisible by 135, 100, 72 and 180.

Options :

1. ✖ 4320

2. ✖ 2880

3. ✖ 2160

4. ✔ 5400

Question Number : 88 Question Id : 54592723318 Question Type : MCQ Option Shuffling : Yes
Correct Marks : 1 Wrong Marks : 0.25

सबसे छोटी संख्या ज्ञात करें जो 135, 100, 72 और 180 से विभाजित हो।

Options :

1. ✖ 4320

2. ✖ 2880

3. ✖ 2160

4. ✔ 5400

Question Number : 89 Question Id : 54592723319 Question Type : MCQ Option Shuffling : Yes

Correct Marks : 1 Wrong Marks : 0.25

If a five digit number $2785x$ is divisible by 11, then the value of x is?

Options :

1. ✖ 1

2. ✔ 2

3. ✖ 3

4. ✖ 5

Question Number : 89 Question Id : 54592723319 Question Type : MCQ Option Shuffling : Yes

Correct Marks : 1 Wrong Marks : 0.25

यदि पांच अंकों की संख्या $2785x$, 11 से विभाज्य है, तो x का मान है:

Options :

1. ✖ 1

2. ✔ 2

3. ✖ 3

4. ✖ 5

Question Number : 90 Question Id : 54592723320 Question Type : MCQ Option Shuffling : Yes

Correct Marks : 1 Wrong Marks : 0.25

Find the least square number which is divisible by 6, 8 and 15?

Options :

1. ✖ 2500

2. ✔ 3600

3. ✖ 4900

4. ✖ 4500

Question Number : 90 Question Id : 54592723320 Question Type : MCQ Option Shuffling : Yes

Correct Marks : 1 Wrong Marks : 0.25

सबसे छोटी पूर्ण वर्ग संख्या ज्ञात करें जो 6, 8 और 15 से विभाज्य है:

Options :

1. ✖ 2500
2. ✔ 3600
3. ✖ 4900
4. ✖ 4500

Question Number : 91 Question Id : 54592723321 Question Type : MCQ Option Shuffling : Yes

Correct Marks : 1 Wrong Marks : 0.25

The average marks scored by the all the students of class VI in their exam is 74.4. The average marks scored by the boys and the girls in the class are 76 and 72 respectively. If there are eight less girls than boys in the class, then what is the number of boys in the class?

Options :

1. ✖ 16
2. ✔ 24
3. ✖ 20
4. ✖ 22

Question Number : 91 Question Id : 54592723321 Question Type : MCQ Option Shuffling : Yes

Correct Marks : 1 Wrong Marks : 0.25

कक्षा छठी के सभी छात्रों द्वारा परीक्षा में औसत अंक 74.4 है। कक्षा में लड़कों और लड़कियों के औसत अंक क्रमशः 76 और 72 हैं। यदि कक्षा में लड़कों की तुलना में आठ कम लड़कियां हैं, तो कक्षा में लड़कों की संख्या क्या है?

Options :

1. ✖ 16
2. ✔ 24

3. ✖ 20

4. ✖ 22

Question Number : 92 Question Id : 54592723322 Question Type : MCQ Option Shuffling : Yes
Correct Marks : 1 Wrong Marks : 0.25

What is the difference between average of prime numbers between 1 to 20 and average of prim numbers between 40 to 60.

Options :

1. ✖ 36.745

2. ✖ 37.385

3. ✔ 38.975

4. ✖ 39.125

Question Number : 92 Question Id : 54592723322 Question Type : MCQ Option Shuffling : Yes
Correct Marks : 1 Wrong Marks : 0.25

1 से 20 के बीच अभाज्य संख्याओं के औसत और 40 से 60 के बीच अभाज्य संख्याओं के औसत का अंतर क्या है?

Options :

1. ✖ 36.745

2. ✖ 37.385

3. ✔ 38.975

4. ✖ 39.125

Question Number : 93 Question Id : 54592723323 Question Type : MCQ Option Shuffling : Yes
Correct Marks : 1 Wrong Marks : 0.25

The amount of discount offered on a product is four-fifth of the amount of profit. If the product is marked up by 60 percent above the cost price, then what was the percentage of discount offered on the product?

Options :

1. ✖ 20 percent
2. ✔ 16.66 percent
3. ✖ 33.33 percent
4. ✖ 25 percent

Question Number : 93 Question Id : 54592723323 Question Type : MCQ Option Shuffling : Yes
Correct Marks : 1 Wrong Marks : 0.25

किसी उत्पाद पर दी जाने वाली छूट की राशि लाभ की राशि का $(4/5)$ th हिस्सा है। यदि उत्पाद को लागत मूल्य से 60 प्रतिशत ऊपर चिह्नित किया जाता है, तो उत्पाद पर छूट का प्रतिशत क्या था?

Options :

1. ✖ 20 प्रतिशत
2. ✔ 16.66 प्रतिशत
3. ✖ 33.33 प्रतिशत
4. ✖ 25 प्रतिशत

Question Number : 94 Question Id : 54592723324 Question Type : MCQ Option Shuffling : Yes
Correct Marks : 1 Wrong Marks : 0.25

A shopkeeper has 25 cartons of sweet boxes with him and each carton has 60 sweet boxes and each box has 15 sweets. If 10 percent of sweets present in 18 percent of boxes in 20 percent of the cartons are barfi. How many barfies shopkeeper has?

Options :

1. ✖ 54
2. ✖ 92
3. ✔ 81
4. ✖ 104

Question Number : 94 Question Id : 54592723324 Question Type : MCQ Option Shuffling : Yes

Correct Marks : 1 Wrong Marks : 0.25

एक दुकानदार के पास मिठाई के डिब्बों के 25 कार्टन होते हैं और प्रत्येक कार्टन में 60 मिठाई बॉक्स होते हैं और प्रत्येक बॉक्स में 15 मिठाइयाँ होती हैं। यदि 20 प्रतिशत कार्टन में 18 प्रतिशत बॉक्स में मौजूद 10 प्रतिशत मिठाई बर्फी है। दुकानदार के पास कितनी बर्फी है?

Options :

1. ✖ 54
2. ✖ 92
3. ✔ 81
4. ✖ 104

Question Number : 95 Question Id : 54592723325 Question Type : MCQ Option Shuffling : Yes

Correct Marks : 1 Wrong Marks : 0.25

Vinita spent 40 percent of his monthly budget to purchase her dress. Of the remaining she gave 12.5 percent to her sister and $81\frac{1}{3}$ percent to his brother and saved the remaining amount. If saving of Vinita is Rs.7600, then find difference between the amount given to her brother and her sister.

Options :

1. ✖ Rs.340
2. ✖ Rs.375
3. ✔ Rs.400
4. ✖ Rs.580

Question Number : 95 Question Id : 54592723325 Question Type : MCQ Option Shuffling : Yes

Correct Marks : 1 Wrong Marks : 0.25

विनीता ने अपनी पोशाक खरीदने के लिए अपने महीने के बजट का 40 प्रतिशत खर्च किया। शेष में से उसने अपनी बहन को 12.5 प्रतिशत और अपने भाई को $8\frac{1}{3}$ प्रतिशत दिया और शेष राशि को बचा लिया। अगर विनीता की बचत रु.7,600 है, तो उसके भाई और उसकी बहन को दी गई राशि के बीच अंतर ज्ञात करें।

Options :

1. ✖ रु. 340

2. ✖ रु. 375

3. ✔ रु. 400

4. ✖ रु. 580

Question Number : 96 Question Id : 54592723326 Question Type : MCQ Option Shuffling : Yes

Correct Marks : 1 Wrong Marks : 0.25

When the square of numerator is decreased by 20 percent and the square of denominator is increased by 25 percent, the resultant fraction is $\frac{9}{16}$. What percent of denominator is numerator?

Options :

1. ✔ 93.75 percent

2. ✖ 83.33 percent

3. ✖ 87.5 percent

4. ✖ 91.25 percent

Question Number : 96 Question Id : 54592723326 Question Type : MCQ Option Shuffling : Yes

Correct Marks : 1 Wrong Marks : 0.25

जब अंश का वर्ग 20 प्रतिशत घट जाता है और हर का वर्ग 25 प्रतिशत बढ़ जाता है, परिणामी भिन्न $\frac{9}{16}$ होता है। अंश, हर का कितना प्रतिशत है?

Options :

1. ✓ 93.75 प्रतिशत

2. ✗ 83.33 प्रतिशत

3. ✗ 87.5 प्रतिशत

4. ✗ 91.25 प्रतिशत

Question Number : 97 Question Id : 54592723327 Question Type : MCQ Option Shuffling : Yes
Correct Marks : 1 Wrong Marks : 0.25

The profit earned by Vikas on selling a machine at 16.66 percent profit is Rs.245. Find the profit percent if he sells five such machines at a total profit of Rs.1653.75.

Options :

1. ✓ 22.5 percent

2. ✗ 24.8 percent

3. ✗ 18.5 percent

4. ✗ 21 percent

Question Number : 97 Question Id : 54592723327 Question Type : MCQ Option Shuffling : Yes
Correct Marks : 1 Wrong Marks : 0.25

विकास द्वारा 16.66 प्रतिशत लाभ पर मशीन बेचने पर कमाया गया लाभ रु.245 है। लाभ प्रतिशत ज्ञात करें यदि वह पांच ऐसी मशीनें बेचता है और कुल लाभ रु.1653.75 है।

Options :

1. ✓ 22.5 प्रतिशत

2. ✗ 24.8 प्रतिशत

3. ✗ 18.5 प्रतिशत

4. ✗ 21 प्रतिशत

Question Number : 98 Question Id : 54592723328 Question Type : MCQ Option Shuffling : Yes
Correct Marks : 1 Wrong Marks : 0.25

A shopkeeper sold two fans F1 and F2 at 18 percent profit and 16 percent profit respectively. If the total profit is Rs.270 and cost price F1 is Rs.200 less than cost price of F2. What is the cost price of F1?

Options :

1. ✖ Rs.900
2. ✖ Rs.600
3. ✖ Rs.800
4. ✔ Rs.700

Question Number : 98 Question Id : 54592723328 Question Type : MCQ Option Shuffling : Yes
Correct Marks : 1 Wrong Marks : 0.25

एक दुकानदार ने दो पंखे F1 और F2 को क्रमशः 18 प्रतिशत लाभ और 16 प्रतिशत लाभ पर बेचा। यदि कुल लाभ Rs.270 है और F1 की लागत मूल्य, F2 की लागत मूल्य से रु.200 कम है। F1 की लागत मूल्य क्या है?

Options :

1. ✖ 900 रु.
2. ✖ 600 रु.
3. ✖ 800 रु.
4. ✔ 700 रु.

Question Number : 99 Question Id : 54592723329 Question Type : MCQ Option Shuffling : Yes
Correct Marks : 1 Wrong Marks : 0.25

Riya marked up the price of a product by 35 percent and then offers a discount of 20 percent to Diya. Diya sells it for Rs.55 more than the price at which she purchased it. If Diya's selling price is 30 percent more than the original cost price of the article, then Diya's profit percentage is:

Options :

1. ✓ 20.37 percent

2. ✗ 17.85 percent

3. ✗ 19.25 percent

4. ✗ 22.15 percent

Question Number : 99 Question Id : 54592723329 Question Type : MCQ Option Shuffling : Yes

Correct Marks : 1 Wrong Marks : 0.25

रिया ने एक उत्पाद की कीमत को 35 प्रतिशत तक चिह्नित किया और फिर दीया को 20 प्रतिशत की छूट प्रदान की। दीया ने इसे जिस कीमत पर खरीदा था, उससे 55 रुपये ज्यादा में इसे बेचती है। यदि दीया की बिक्री की कीमत उत्पाद की मूल लागत मूल्य से 30 प्रतिशत अधिक है, तो दीया का लाभ प्रतिशत है?

Options :

1. ✓ 20.37 प्रतिशत

2. ✗ 17.85 प्रतिशत

3. ✗ 19.25 प्रतिशत

4. ✗ 22.15 प्रतिशत

Question Number : 100 Question Id : 54592723330 Question Type : MCQ Option Shuffling : Yes

Correct Marks : 1 Wrong Marks : 0.25

The ratio of the ages of Mrs. Gupta and Mr. Gupta when their first child was born was 6 : 7. Today, when their second child was born, the ratio their ages is 8 : 9. If the difference in the ages of the two children is 10 years, then what will be the age of Mr. Gupta two years from now?

Options :

1. ✗ 45 yrs

2. ✓ 47 yrs

3. ✗ 38 yrs

4. * 40 yrs

Question Number : 100 Question Id : 54592723330 Question Type : MCQ Option Shuffling : Yes
Correct Marks : 1 Wrong Marks : 0.25

श्रीमती गुप्ता और श्री गुप्ता की आयु का अनुपात जब उनके पहले बच्चे का जन्म हुआ था 6 : 7 हुआ था. आज, जब उनके दूसरे बच्चे का जन्म हुआ, उनका अनुपात 8 : 9 है। यदि दोनों बच्चों की उम्र में 10 साल का अंतर है, तो अब से दो साल बाद श्री गुप्ता की उम्र क्या होगी?

Options :

1. * 45 वर्ष
2. ✓ 47 वर्ष
3. * 38 वर्ष
4. * 40 वर्ष

Arithmetic Ability2

Group Number :	6
Group Id :	5459271156
Group Maximum Duration :	0
Group Minimum Duration :	0
Show Attended Group? :	No
Edit Attended Group? :	No
Break time:	0
Group Marks:	20
Is this Group for Examiner? :	No
Revisit allowed for group Instructions? :	Yes
Maximum Instruction Time:	0
Minimum Instruction Time:	0

Arithmetic Ability2

Section Id :	5459271156
Section Number :	1
Section type :	Online
Mandatory or Optional:	Mandatory
Number of Questions:	20

Number of Questions to be attempted: 20
Section Marks: 20

Sub-Section Number: 1
Sub-Section Id: 5459271386
Question Shuffling Allowed : Yes

Question Number : 101 Question Id : 54592723331 Question Type : MCQ Option Shuffling : Yes
Correct Marks : 1 Wrong Marks : 0.25

Two drinks, A and B, contains vitamin C and vitamin D in the ratio 5 : 3 and 8 : 11 respectively. The drinks A and B are mixed, which of the following cannot be the ratio of vitamin C and vitamin D in the mixture thus formed?

Options :

1. ✖ 3 : 4
2. ✖ 4 : 5
3. ✔ 2 : 1
4. ✖ 5 : 6

Question Number : 101 Question Id : 54592723331 Question Type : MCQ Option Shuffling : Yes
Correct Marks : 1 Wrong Marks : 0.25

दो पेय, A और B में क्रमशः 5 : 3 और 8 : 11 के अनुपात में विटामिन सी और विटामिन डी होता है। पेय A और B को मिलाया जाता है, निम्नलिखित में से मिश्रण में कौन विटामिन C और विटामिन D का अनुपात नहीं हो सकता है?

Options :

1. ✖ 3 : 4
2. ✖ 4 : 5
3. ✔ 2 : 1
4. ✖ 5 : 6

Question Number : 102 Question Id : 54592723332 Question Type : MCQ Option Shuffling : Yes
Correct Marks : 1 Wrong Marks : 0.25

p, q, r, s and t are in continue proportion. The value of r is 80 and value of t is 1280. Find the sum of p, q and s.

Options :

1. ✖ 365
2. ✖ 315
3. ✔ 345
4. ✖ 375

Question Number : 102 Question Id : 54592723332 Question Type : MCQ Option Shuffling : Yes

Correct Marks : 1 Wrong Marks : 0.25

p, q, r, s और t निरंतर अनुपात में हैं। r का मान 80 है और t का मान 1280 है। p, q और s का योग ज्ञात कीजिए।

Options :

1. ✖ 365
2. ✖ 315
3. ✔ 345
4. ✖ 375

Question Number : 103 Question Id : 54592723333 Question Type : MCQ Option Shuffling : Yes

Correct Marks : 1 Wrong Marks : 0.25

A sum of money Rs.16000 lent at rate of 15 percent per annum compounded annually for 3 years. At the end of every year, income tax of 10 percent is paid on compound interest earned. What is the amount received after three years (approximately)?

Options :

1. ✔ Rs.23394
2. ✖ Rs.24586
3. ✖ Rs.32415
4. ✖ Rs.19950

Question Number : 103 Question Id : 54592723333 Question Type : MCQ Option Shuffling : Yes

Correct Marks : 1 Wrong Marks : 0.25

3 साल तक 15 प्रतिशत प्रति वर्ष चक्रवृद्धि ब्याज (वार्षिक गणना) के साथ रु.16000 की राशि उधार दी जाती है हर साल के अंत में, अर्जित ब्याज पर 10 प्रतिशत का आयकर दिया जाता है। तीन साल (लगभग) के बाद प्राप्त राशि क्या है?

Options :

1. ✓ रु. 23394

2. * रु.24586

3. * रु.32415

4. * रु.19950

Question Number : 104 Question Id : 54592723334 Question Type : MCQ Option Shuffling : Yes

Correct Marks : 1 Wrong Marks : 0.25

The difference between the simple interest and compound interest accrued in two years on a certain sum at a certain rate of interest is Rs.320. if the simple interest for second year is Rs.2000, find the sum.

Options :

1. * Rs.14000

2. * Rs.10400

3. * Rs.16500

4. ✓ Rs.12500

Question Number : 104 Question Id : 54592723334 Question Type : MCQ Option Shuffling : Yes

Correct Marks : 1 Wrong Marks : 0.25

ब्याज की एक निश्चित दर पर एक निश्चित राशि पर दो साल में अर्जित साधारण ब्याज और चक्रवृद्धि ब्याज के बीच का अंतर रु.320 है। यदि द्वितीय वर्ष का साधारण ब्याज रु.2000 है, तो राशि प्राप्त करें।

Options :

1. ✖ ₹. 14000

2. ✖ ₹.10400

3. ✖ ₹.16500

4. ✔ ₹.12500

Question Number : 105 Question Id : 54592723335 Question Type : MCQ Option Shuffling : Yes

Correct Marks : 1 Wrong Marks : 0.25

Aman borrowed an amount of Rs. 18,000 at 20 percent p.a. compounded half yearly. After four months he borrowed Rs. 15,000 at 12 percent p.a. compounded for every four months. Find the total interest paid by him at the end of the year.

Options :

1. ✔ Rs.5004

2. ✖ Rs.4744

3. ✖ Rs.5224

4. ✖ Rs.4964

Question Number : 105 Question Id : 54592723335 Question Type : MCQ Option Shuffling : Yes

Correct Marks : 1 Wrong Marks : 0.25

अमन ने ₹.18,000 की राशि 20 प्रतिशत प्रति वर्ष चक्रवृद्धि ब्याज (अर्धवार्षिक गणना) पर उधार ली। चार महीने के बाद उसने ₹.15,000 को 12 प्रतिशत प्रति वर्ष चक्रवृद्धि ब्याज (चार महीने गणना) पर उधार ली। वर्ष के अंत में उसके द्वारा दिए गए कुल ब्याज का पता लगाएं।

Options :

1. ✔ ₹. 5004

2. ✖ ₹. 4744

3. ✖ ₹. 5224

4. ✖ ₹. 4964

Question Number : 106 Question Id : 54592723336 Question Type : MCQ Option Shuffling : Yes
Correct Marks : 1 Wrong Marks : 0.25

Two persons A and B started from two different places towards each other. If the ratio of their speeds be 5:7, then what is the ratio of distance covered by A and B respectively till the point of meeting?

Options :

1. ✖ 1:2

2. ✖ 3:4

3. ✔ 5:7

4. ✖ 5:3

Question Number : 106 Question Id : 54592723336 Question Type : MCQ Option Shuffling : Yes
Correct Marks : 1 Wrong Marks : 0.25

दो व्यक्ति A ओर B दो भिन्न स्थानों से एक दूसरे की ओर चलना प्रारम्भ करते हैं। यदि उनकी गतियों का अनुपात 5: 7 है तो A व B द्वारा मिलने के स्थान तक पहुंचने में तय की गई दूरी का क्रमशः अनुपात क्या होगा?

Options :

1. ✖ 1:2

2. ✖ 3:4

3. ✔ 5:7

4. ✖ 5:3

Question Number : 107 Question Id : 54592723337 Question Type : MCQ Option Shuffling : Yes
Correct Marks : 1 Wrong Marks : 0.25

Sachin travels a fixed distance by bike at the average speed of 20 kmph and at average speed of 50 kmph to return to the initial position. Find average speed during the whole trip.

Options :

1. ✖ 35 kmph

2. ✖ $22\frac{3}{4}$ kmph

3. ✔ $28\frac{4}{7}$ kmph

4. ✖ 28 kmph

Question Number : 107 Question Id : 54592723337 Question Type : MCQ Option Shuffling : Yes
Correct Marks : 1 Wrong Marks : 0.25

सचिन बाइक द्वारा एक निश्चित दूरी 20 kmph की औसत गति से यात्रा करता है तथा पुनः प्रारंभिक स्थिति पर वापस आने में 50 kmph की औसत गति से यात्रा करता है। पूरी यात्रा के दौरान औसत गति ज्ञात कीजिए।

Options :

1. ✖ 35 किमी प्रति घंटा

2. ✖ $22\frac{3}{4}$ किमी प्रति घंटा

3. ✔ $28\frac{4}{7}$ किमी प्रति घंटा

4. ✖ 28 किमी प्रति घंटा

Question Number : 108 Question Id : 54592723338 Question Type : MCQ Option Shuffling : Yes
Correct Marks : 1 Wrong Marks : 0.25

A train passes a station platform in 18 s and a man standing on the platform in 10 s. If the speed of the train is 108 km/h, find the length of the platform.

Options :

1. ✖ 225 m

2. ✖ 235 m

3. ✖ 230 m

4. ✔ 240 m

Question Number : 108 Question Id : 54592723338 Question Type : MCQ Option Shuffling : Yes

Correct Marks : 1 Wrong Marks : 0.25

एक रेलगाड़ी का स्टेशन के प्लेटफार्म को 18 सेकंड में पार करती है तथा प्लेटफार्म पर खड़े एक आदमी को 10सेकंड में पार करती है। यदि रेलगाड़ी की गति 108 किमी/घंटा है, तो प्लेटफार्म की लंबाई ज्ञात कीजिये।

Options :

1. ✖ 225 मीटर

2. ✖ 235 मीटर

3. ✖ 230 मीटर

4. ✔ 240 मीटर

Question Number : 109 Question Id : 54592723339 Question Type : MCQ Option Shuffling : Yes

Correct Marks : 1 Wrong Marks : 0.25

If A and B can complete a work in 4 and 5 days respectively. Then the ratio of efficiency of A to B is:

Options :

1. ✖ 2:3

2. ✔ 5:4

3. ✖ 5:6

4. ✖ 1:3

Question Number : 109 Question Id : 54592723339 Question Type : MCQ Option Shuffling : Yes

Correct Marks : 1 Wrong Marks : 0.25

यदि A और B क्रमशः 4 और 5 दिनों में एक काम को पूरा कर सकते हैं तो A से B की कार्यदास्ता का क्रमशः अनुपात है:

Options :

1. ✖ 2:3

2. ✔ 5:4

3. ✖ 5:6

4. ✖ 1:3

Question Number : 110 Question Id : 54592723340 Question Type : MCQ Option Shuffling : Yes

Correct Marks : 1 Wrong Marks : 0.25

Two persons A and B together can complete a piece of work in 20 days. If A work at twice his efficiency and B at half of his efficiency, then the work will be completed in 16 days. Then number of days in which A alone can complete the work is:

Options :

1. ✔ 40 days

2. ✖ 24 days

3. ✖ 30 days

4. ✖ 36 days

Question Number : 110 Question Id : 54592723340 Question Type : MCQ Option Shuffling : Yes

Correct Marks : 1 Wrong Marks : 0.25

दो व्यक्ति A और B मिलकर किसी कार्य को 20 दिनों में पूर्ण कर सकते हैं। यदि A दुगुनी क्षमता से और B आधी क्षमता से काम करे, तो कार्य 16 दिनों में पूरा हो जाएगा। A अकेले उसी कार्य को कितने दिनों में पूर्ण कर सकता है?

Options :

1. ✔ 40 दिन

2. ✖ 24 दिन

3. ✖ 30 दिन

4. ✖ 36 दिन

Question Number : 111 Question Id : 54592723341 Question Type : MCQ Option Shuffling : Yes
Correct Marks : 1 Wrong Marks : 0.25

A is thrice as good as workman as B. Together, they finish the work in 15 days. In how many days can it be done by each separately?

Options :

1. * A = 19 days, B = 38 days
2. * A = 15 days, B = 30 days
3. ✓ A = 20 days , B = 60 days
4. * A = 14 days, B = 28 days

Question Number : 111 Question Id : 54592723341 Question Type : MCQ Option Shuffling : Yes
Correct Marks : 1 Wrong Marks : 0.25

A, B से तीन गुना काम करने में अच्छा है वे एक साथ 15 दिन में काम को समाप्त कर देते हैं। अलग-अलग इस कार्य को समाप्त करने में कितना समय लगेगा:

Options :

1. * A = 19 दिन , B = 38 दिन
2. * A = 15 दिन, B = 30 दिन
3. ✓ A = 20 दिन , B = 60 दिन
4. * A = 14 दिन , B = 28 दिन

Question Number : 112 Question Id : 54592723342 Question Type : MCQ Option Shuffling : Yes
Correct Marks : 1 Wrong Marks : 0.25

How many tiles, each 2 decimeter square will be required to cover the floor of a room 6 m long and 4 m broad?

Options :

1. * 500
2. * 560
3. * 540

4. ✓ 600

Question Number : 112 Question Id : 54592723342 Question Type : MCQ Option Shuffling : Yes
Correct Marks : 1 Wrong Marks : 0.25

2 डेसी मीटर भुजा वाली वर्गाकार टाइल्स द्वारा किसी 6 मी लम्बे तथा 4 मी चौड़े फर्श को बनाने में कितनी वर्गाकार टाइल्स की आवश्यकता होगी?

Options :

1. ✗ 500
2. ✗ 560
3. ✗ 540
4. ✓ 600

Question Number : 113 Question Id : 54592723343 Question Type : MCQ Option Shuffling : Yes
Correct Marks : 1 Wrong Marks : 0.25

If the radius of a cylinder is decreased 20 percent and height is increased 56.25 percent. What will change in the volume of cylinder.

Options :

1. ✗ 8 percent Increase
2. ✓ Neither increases nor decreases
3. ✗ 12 percent Decrease
4. ✗ 12 percent Increase

Question Number : 113 Question Id : 54592723343 Question Type : MCQ Option Shuffling : Yes
Correct Marks : 1 Wrong Marks : 0.25

यदि एक बेलन की त्रिज्या 20 प्रतिशत कम कर दी जाये और ऊँचाई 56.25 प्रतिशत बढ़ा दी जाये तो इस प्रकार बेलन के आयतन में कितने प्रतिशत की कमी आयेगी?

Options :

1. ✖ 8 प्रतिशत की वृद्धि
2. ✔ ना वृद्धि ना कमी
3. ✖ 12 प्रतिशत की कमी
4. ✖ 12 प्रतिशत की वृद्धि

Question Number : 114 Question Id : 54592723344 Question Type : MCQ Option Shuffling : Yes
Correct Marks : 1 Wrong Marks : 0.25

Find the volume of a cone whose base radius is 6 cm and height is 3.5 cm.

Options :

1. ✖ 96 cube cm
2. ✔ 132 cube cm
3. ✖ 114 cube cm
4. ✖ 128 cube cm

Question Number : 114 Question Id : 54592723344 Question Type : MCQ Option Shuffling : Yes
Correct Marks : 1 Wrong Marks : 0.25

एक शंकु का आयतन ज्ञात करें जिसके आधार की त्रिज्या 6 सेमी है और ऊंचाई 3.5 सेमी है।

Options :

1. ✖ 96 घन सेमी
2. ✔ 132 घन सेमी
3. ✖ 114 घन सेमी
4. ✖ 128 घन सेमी

Question Number : 115 Question Id : 54592723345 Question Type : MCQ Option Shuffling : Yes
Correct Marks : 1 Wrong Marks : 0.25

Study the following table and answer the questions that follow:

Employee Working Various Departments of Hoola Boola Moola, Inc.

Years	Department (Number of Employees)				
	Production	Marketing	Corporate	Accounts	Research
2001	150	25	50	45	75
2002	225	40	45	62	70
2003	450	65	30	90	73
2004	470	73	32	105	70
2005	500	80	35	132	74
2006	505	75	36	130	75

In how many years was the number of employees working in the production department more than 50 percent of the total employees?

Options :

- 1. ✖ 2
- 2. ✖ 3
- 3. ✖ 4
- 4. ✔ 5

Question Number : 115 Question Id : 54592723345 Question Type : MCQ Option Shuffling : Yes

Correct Marks : 1 Wrong Marks : 0.25

निम्नलिखित तालिका का अध्ययन करें और निम्नलिखित प्रश्नों के उत्तर दें:

हुला बूल मुल्ला, इंक के विभिन्न विभागों में कार्यरत कर्मचारी

वर्ष	विभाग (कर्मचारियों की संख्या)				
	उत्पादन	विपणन	कॉर्पोरेट	लेखा	अनुसंधान
2001	150	25	50	45	75
2002	225	40	45	62	70
2003	450	65	30	90	73
2004	470	73	32	105	70
2005	500	80	35	132	74
2006	505	75	36	130	75

कितने वर्षों में उत्पादन विभाग में काम करने वाले कर्मचारियों की संख्या कुल कर्मचारियों के 50 प्रतिशत से अधिक थी?

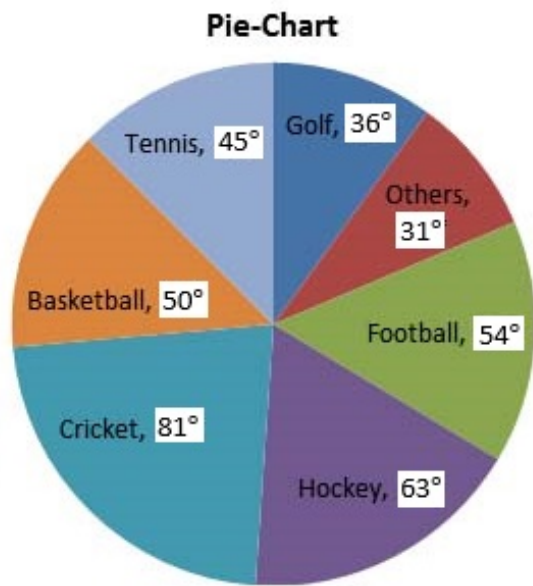
Options :

1. ✖ 2
2. ✖ 3
3. ✖ 4
4. ✔ 5

Question Number : 116 Question Id : 54592723346 Question Type : MCQ Option Shuffling : Yes

Correct Marks : 1 Wrong Marks : 0.25

The circle-graph given here shows the spendings of a country on various sports during a particular year. Study the graph carefully and answer the questions given below it.



If the total amount spent on sports during the year was Rs.2 crore, the amount spent on Cricket and Hockey together was:

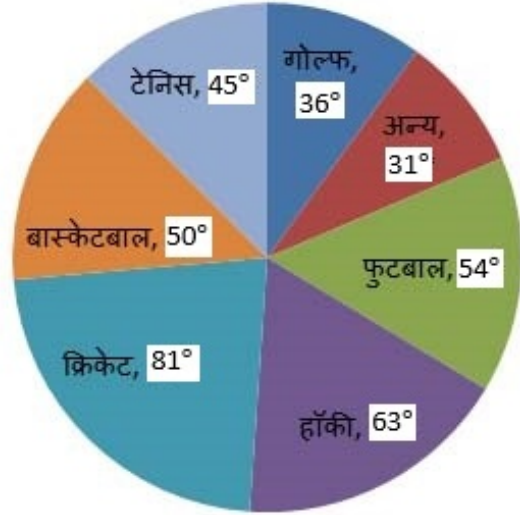
Options :

1. ✘ Rs.800000
2. ✔ Rs.8000000
3. ✘ Rs.12000000
4. ✘ Rs.16000000

Question Number : 116 Question Id : 54592723346 Question Type : MCQ Option Shuffling : Yes
Correct Marks : 1 Wrong Marks : 0.25

नीचे दिया हुआ वृत्त-ग्राफ किसी देश के किसी विशेष वर्ष में विभिन्न खेलों पर खर्च को दर्शाता है। ग्राफ को ध्यान से पढ़ें तथा नीचे दिए गए प्रश्नों का उत्तर दें।

पाई चार्ट



यदि पूरे वर्ष में सम्पूर्ण खेलों पर ₹ 2 करोड़ खर्च हुए हों, तो क्रिकेट तथा हॉकी पर एक साथ खर्च हुए थे:

Options :

1. ✘ ₹. 800000
2. ✔ ₹. 8000000
3. ✘ ₹. 12000000
4. ✘ ₹. 16000000

Question Number : 117 Question Id : 54592723347 Question Type : MCQ Option Shuffling : Yes
Correct Marks : 1 Wrong Marks : 0.25

DIRECTIONS: The table given below shows the number of temples which are under the protection of the Archaeological survey of India (ASI) in five different states as per cent of total temples in India under the protection of ASI and number of such temples in the capital city of these five states. Total temples in India which are under protection of ASI = 1000

States	Percent of Temples	Number of temples in capital city
Karnataka	24%	64
Madhya Pradesh	9.6%	24
Tamil Nadu	12%	32
Uttar Pradesh	13.2%	16
Maharashtra	9%	18

What is the total number of temples which are under the protection of the ASI in all the five states together?

Options :

1. ✖ 456
2. ✖ 567
3. ✔ 678
4. ✖ 789

Question Number : 117 Question Id : 54592723347 Question Type : MCQ Option Shuffling : Yes
Correct Marks : 1 Wrong Marks : 0.25

निर्देश: नीचे दी गई तालिका में पांच अलग-अलग राज्यों में भारतीय पुरातत्व सर्वेक्षण (ASI) की सुरक्षा के अंतर्गत मंदिरों की संख्या को ASI की सुरक्षा के अंतर्गत भारत में कुल मंदिरों के प्रतिशत के रूप में दर्शाया गया है और इन पांच राज्यों के राजधानी शहर में ऐसे मंदिरों की संख्या को दर्शाया गया है।

ASI की सुरक्षा के अंतर्गत भारत में कुल मंदिर = 1000.

राज्य	मंदिरों का प्रतिशत	राजधानी शहर में मंदिरों की संख्या
कर्नाटक	24%	64
मध्य प्रदेश	9.6%	24
तमिल नाडु	12%	32
उ.प्र.	13.2%	16
महाराष्ट्र	9%	18

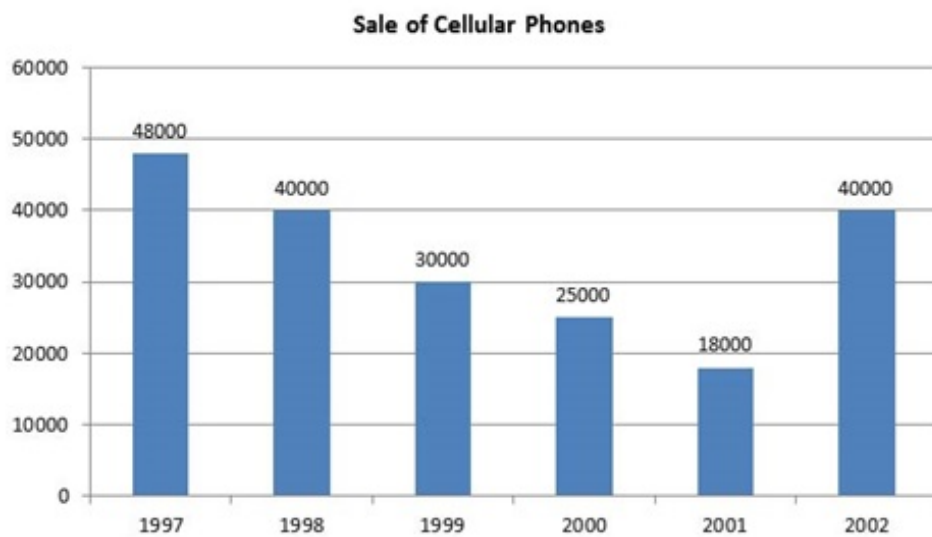
सभी पांच राज्यों में संयुक्त तौर पर ASI की सुरक्षा के अंतर्गत मंदिरों की कुल संख्या कितनी है?

Options :

1. ✖ 456
2. ✖ 567
3. ✔ 678
4. ✖ 789

Question Number : 118 Question Id : 54592723348 Question Type : MCQ Option Shuffling : Yes
Correct Marks : 1 Wrong Marks : 0.25

The following bar chart gives the number of cellular phones sold in the year 1997 to 2002. Study the graph and answer the questions that follow:



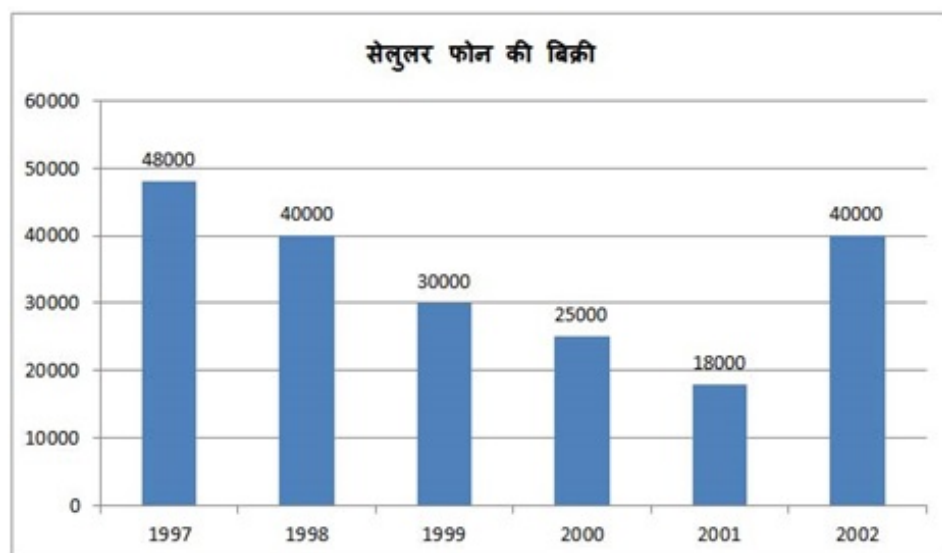
The two years between which the rate of change of cellular phones is minimum are _____.

Options :

1. ✖ 1997 and 1998
2. ✖ 1999 and 2000
3. ✔ 1997 and 1998, 1999 and 2000
4. ✖ 2001 and 2002

Question Number : 118 Question Id : 54592723348 Question Type : MCQ Option Shuffling : Yes
Correct Marks : 1 Wrong Marks : 0.25

निम्नलिखित बार चार्ट वर्ष 1997 से 2002 तक बेचे गए सेलुलर फोन की संख्या दर्शाता है। ग्राफ का अध्ययन करें और निम्नलिखित प्रश्नों के उत्तर दें:



दो वर्ष _____ के बीच सेलुलर फोन के परिवर्तन की दर न्यूनतम है।

Options :

1. ✘ 1997 और 1998
2. ✘ 1999 और 2000
3. ✔ 1997 और 1998, 1999 और 2000
4. ✘ 2001 और 2002

Question Number : 119 Question Id : 54592723349 Question Type : MCQ Option Shuffling : Yes

Correct Marks : 1 Wrong Marks : 0.25

Consider the following graph and answer the questions based on it.

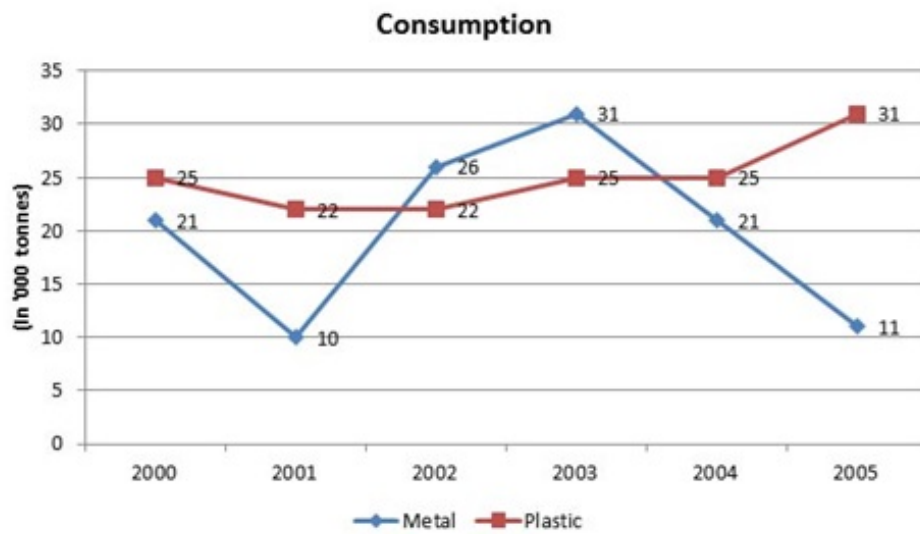


Fig. Consumption of metals versus plastics in the given years of Car manufacturing (in thousand tonnes)

The total consumption of plastic and metal over the period will give a ratio closest to:

Options :

1. ✘ 4 : 3

2. ✔ 5 : 4

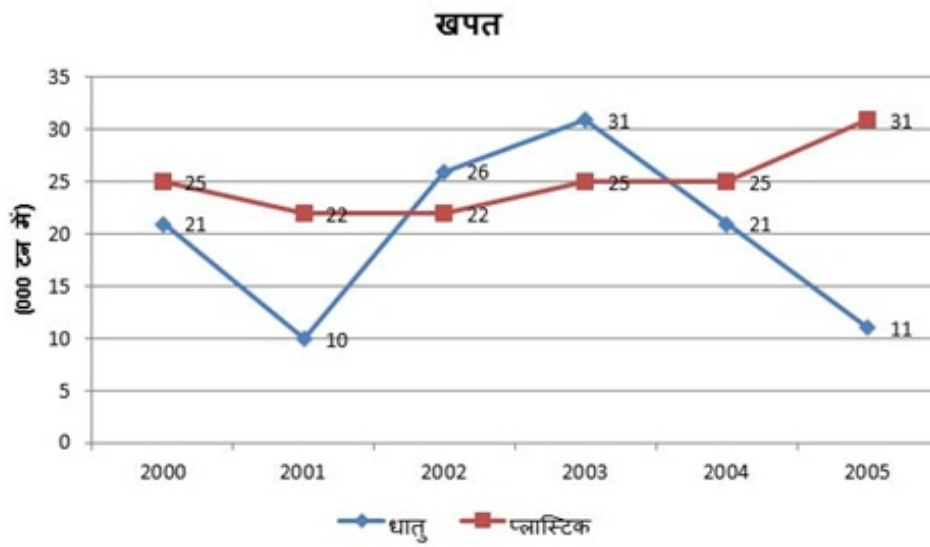
3. ✘ 6 : 5

4. ✘ 7 : 4

Question Number : 119 Question Id : 54592723349 Question Type : MCQ Option Shuffling : Yes

Correct Marks : 1 Wrong Marks : 0.25

निम्नलिखित ग्राफ पर विचार करें और प्रश्नों के आधार पर उत्तर दें।



कार निर्माण के कुछ वर्षों में (हजार टन में) धातु बनाम प्लास्टिक की खपत

कुल अवधि में प्लास्टिक और धातु की कुल खपत _____ के निकटतम अनुपात देगी।

Options :

1. ✖ 4 : 3

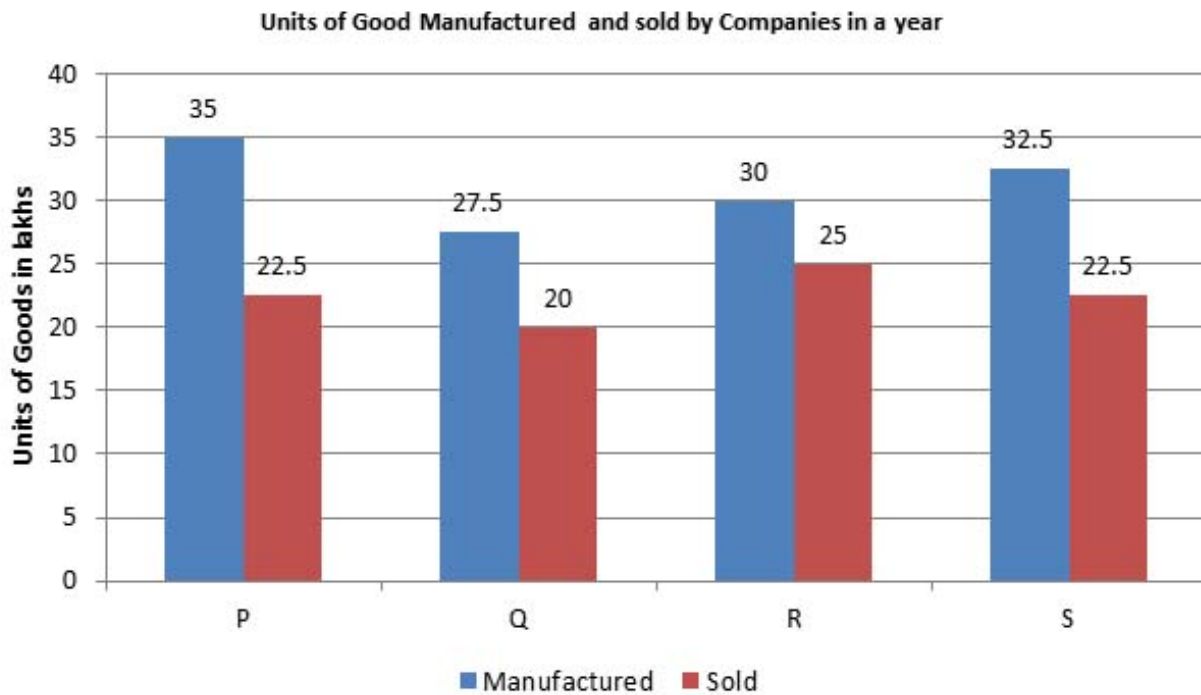
2. ✔ 5 : 4

3. ✖ 6 : 5

4. ✖ 7 : 4

Question Number : 120 Question Id : 54592723350 Question Type : MCQ Option Shuffling : Yes
Correct Marks : 1 Wrong Marks : 0.25

Study the following graph carefully and answer the questions given below it.



What is the respective ratio of the units of goods sold by companies P and Q together to the units of goods sold by companies R and S together?

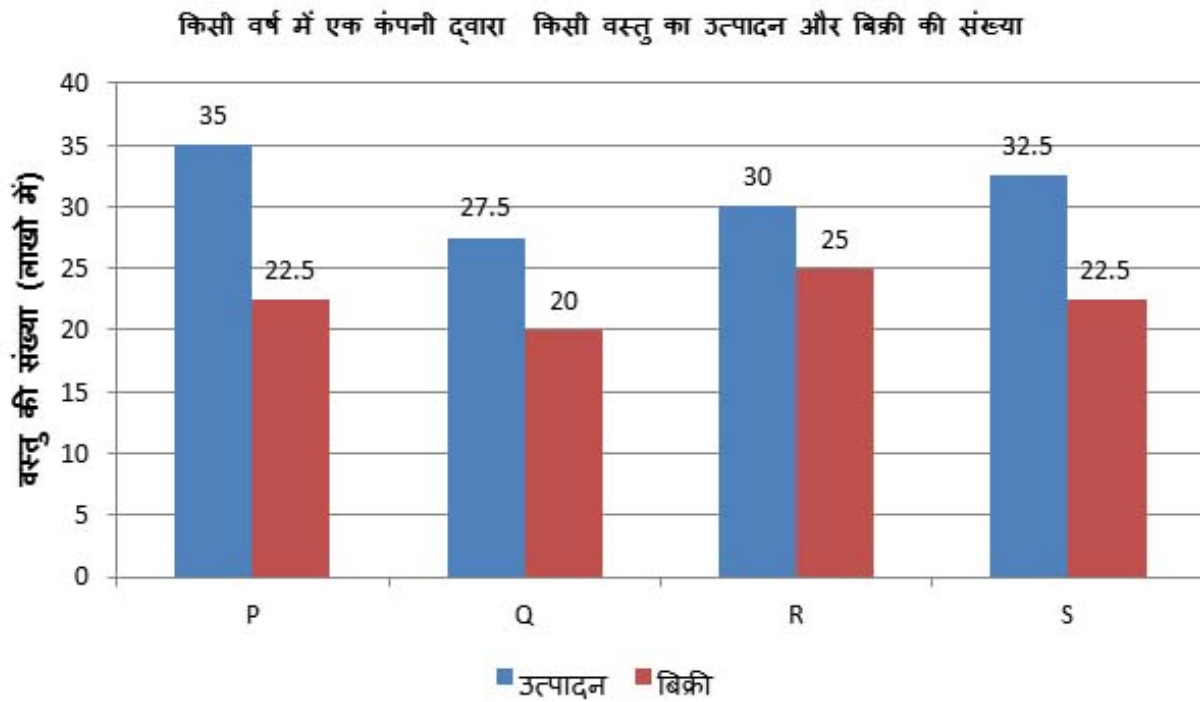
Options :

1. ✘ 15:17
2. ✘ 17:18
3. ✔ 17:19
4. ✘ 19:20

Question Number : 120 Question Id : 54592723350 Question Type : MCQ Option Shuffling : Yes

Correct Marks : 1 Wrong Marks : 0.25

निम्न ग्राफ को ध्यानपूर्वक अध्ययन कीजिए और दिए गए प्रश्नों का उत्तर दीजिए।



कंपनी P और Q द्वारा एक साथ बेचे गए वस्तुओं की कुल संख्या तथा कंपनी R और S द्वारा एक साथ बेचे गए वस्तुओं की कुल संख्या के बीच का अनुपात क्या है?

Options :

- ✘ 15:17
- ✘ 17:18
- ✔ 17:19
- ✘ 19:20

General English1

Group Number : 7
Group Id : 5459271157
Group Maximum Duration : 0
Group Minimum Duration : 0

Show Attended Group? :	No
Edit Attended Group? :	No
Break time:	0
Group Marks:	20
Is this Group for Examiner?:	No
Revisit allowed for group Instructions? :	Yes
Maximum Instruction Time:	0
Minimum Instruction Time:	0

General English1

Section Id :	5459271157
Section Number :	1
Section type :	Online
Mandatory or Optional:	Mandatory
Number of Questions:	20
Number of Questions to be attempted:	20
Section Marks:	20

Sub-Section Number:	1
Sub-Section Id:	5459271387
Question Shuffling Allowed :	Yes

Question Number : 121 Question Id : 54592723351 Question Type : MCQ Option Shuffling : Yes
Correct Marks : 1 Wrong Marks : 0.25

Identify the segment in the sentence which contains the grammatical error from the given options.

A dropping catch is often the difference between lifting the World Cup and going home empty handed.

Options :

1. ✓ A dropping catch
2. ✗ the difference between
3. ✗ lifting the World Cup
4. ✗ and going home empty handed.

Question Number : 121 Question Id : 54592723351 Question Type : MCQ Option Shuffling : Yes
Correct Marks : 1 Wrong Marks : 0.25

Identify the segment in the sentence which contains the grammatical error from the given options.

A dropping catch is often the difference between lifting the World Cup and going home empty handed.

Options :

1. ✓ A dropping catch
2. ✗ the difference between
3. ✗ lifting the World Cup
4. ✗ and going home empty handed.

Question Number : 122 Question Id : 54592723352 Question Type : MCQ Option Shuffling : Yes

Correct Marks : 1 Wrong Marks : 0.25

Identify the segment in the sentence which contains the grammatical error from the given options.

We have seen fireflies all our life but it has become a tourist attraction only in the past 10 years.

Options :

1. ✗ We have seen fireflies
2. ✓ all our life
3. ✗ it has become
4. ✗ a tourist attraction

Question Number : 122 Question Id : 54592723352 Question Type : MCQ Option Shuffling : Yes

Correct Marks : 1 Wrong Marks : 0.25

Identify the segment in the sentence which contains the grammatical error from the given options.

We have seen fireflies all our life but it has become a tourist attraction only in the past 10 years.

Options :

1. ✘ We have seen fireflies
2. ✔ all our life
3. ✘ it has become
4. ✘ a tourist attraction

Question Number : 123 Question Id : 54592723353 Question Type : MCQ Option Shuffling : Yes
Correct Marks : 1 Wrong Marks : 0.25

Identify the segment in the sentence which contains the grammatical error from the given options.

Scientists have for the first time show that some wild corals are feeding on tiny particles of plastic trash.

Options :

1. ✘ Scientists have
2. ✘ for the first time
3. ✔ show that some
4. ✘ particles of plastic

Question Number : 123 Question Id : 54592723353 Question Type : MCQ Option Shuffling : Yes
Correct Marks : 1 Wrong Marks : 0.25

Identify the segment in the sentence which contains the grammatical error from the given options.

Scientists have for the first time show that some wild corals are feeding on tiny particles of plastic trash.

Options :

1. ✖ Scientists have
2. ✖ for the first time
3. ✔ show that some
4. ✖ particles of plastic

Question Number : 124 Question Id : 54592723354 Question Type : MCQ Option Shuffling : Yes
Correct Marks : 1 Wrong Marks : 0.25

Identify the segment in the sentence which contains the grammatical error from the given options.

That grizzly bears eat worms and grasses may surprise people, but the bears actually eat a huge range in things.

Options :

1. ✖ That grizzly bears eat
2. ✖ worms and grasses
3. ✖ but the bears actually
4. ✔ a huge range in things

Question Number : 124 Question Id : 54592723354 Question Type : MCQ Option Shuffling : Yes
Correct Marks : 1 Wrong Marks : 0.25

Identify the segment in the sentence which contains the grammatical error from the given options.

That grizzly bears eat worms and grasses may surprise people, but the bears actually eat a huge range in things.

Options :

1. ✘ That grizzly bears eat
2. ✘ worms and grasses
3. ✘ but the bears actually
4. ✔ a huge range in things

Question Number : 125 Question Id : 54592723355 Question Type : MCQ Option Shuffling : Yes
Correct Marks : 1 Wrong Marks : 0.25

Identify the segment in the sentence which contains the grammatical error from the given options.

After serving in the Vietnam War, author Paul Peacock spend years alone in the wilderness observing grizzly bears.

Options :

1. ✘ After serving in
2. ✘ the Vietnam War
3. ✔ spend years alone
4. ✘ observing grizzly bears.

Question Number : 125 Question Id : 54592723355 Question Type : MCQ Option Shuffling : Yes
Correct Marks : 1 Wrong Marks : 0.25

Identify the segment in the sentence which contains the grammatical error from the given options.

After serving in the Vietnam War, author Paul Peacock spend years alone in the wilderness observing grizzly bears.

Options :

1. ✖ After serving in
2. ✖ the Vietnam War
3. ✔ spend years alone
4. ✖ observing grizzly bears.

Question Number : 126 Question Id : 54592723356 Question Type : MCQ Option Shuffling : Yes
Correct Marks : 1 Wrong Marks : 0.25

Select the most appropriate option to substitute the underlined segment in the given sentence. If there is no need to substitute it, select option No substitution required.

Many organisms, from fish to birds, have being find to eat small bits of plastic.

Options :

1. ✔ have been found to
2. ✖ has been found to
3. ✖ had been find to
4. ✖ No substitution required

Question Number : 126 Question Id : 54592723356 Question Type : MCQ Option Shuffling : Yes

Correct Marks : 1 Wrong Marks : 0.25

Select the most appropriate option to substitute the underlined segment in the given sentence. If there is no need to substitute it, select option No substitution required.

Many organisms, from fish to birds, have being find to eat small bits of plastic.

Options :

1. ✓ have been found to
2. ✗ has been found to
3. ✗ had been find to
4. ✗ No substitution required

Question Number : 127 Question Id : 54592723357 Question Type : MCQ Option Shuffling : Yes

Correct Marks : 1 Wrong Marks : 0.25

Select the most appropriate option to substitute the underlined segment in the given sentence. If there is no need to substitute it, select option No substitution required.

She was excited in studying corals and, as she puts it, having a conversation with nature.

Options :

1. ✗ was excited at
2. ✓ was excited about
3. ✗ was excited on

4. ✖ No substitution required

Question Number : 127 Question Id : 54592723357 Question Type : MCQ Option Shuffling : Yes

Correct Marks : 1 Wrong Marks : 0.25

Select the most appropriate option to substitute the underlined segment in the given sentence. If there is no need to substitute it, select option No substitution required.

She was excited in studying corals and, as she puts it, having a conversation with nature.

Options :

1. ✖ was excited at
2. ✔ was excited about
3. ✖ was excited on
4. ✖ No substitution required

Question Number : 128 Question Id : 54592723358 Question Type : MCQ Option Shuffling : Yes

Correct Marks : 1 Wrong Marks : 0.25

Select the most appropriate option to substitute the underlined segment in the given sentence. If there is no need to substitute it, select option No substitution required.

Like other plastics, micro beads will survive in the environment and posing a threat to corals for centuries.

Options :

1. ✖ posed a threat to
2. ✖ pose a threat in
3. ✔ pose a threat to
4. ✖ No substitution required

Question Number : 128 Question Id : 54592723358 Question Type : MCQ Option Shuffling : Yes
Correct Marks : 1 Wrong Marks : 0.25

Select the most appropriate option to substitute the underlined segment in the given sentence. If there is no need to substitute it, select option No substitution required.

Like other plastics, micro beads will survive in the environment and posing a threat to corals for centuries.

Options :

1. ✖ posed a threat to
2. ✖ pose a threat in
3. ✔ pose a threat to
4. ✖ No substitution required

Question Number : 129 Question Id : 54592723359 Question Type : MCQ Option Shuffling : Yes
Correct Marks : 1 Wrong Marks : 0.25

Select the most appropriate option to substitute the underlined segment in the given sentence. If there is no need to substitute it, select option No substitution required.

Dental experts started framing the question of dental care as a social, moral, and even patriotic issue.

Options :

1. ✖ Socially, morally and even patriotically
2. ✖ Social, moral and also a patriotic
3. ✖ Social, moral or patriotic
4. ✔ No substitution required

Question Number : 129 Question Id : 54592723359 Question Type : MCQ Option Shuffling : Yes
Correct Marks : 1 Wrong Marks : 0.25

Select the most appropriate option to substitute the underlined segment in the given sentence. If there is no need to substitute it, select option No substitution required.

Dental experts started framing the question of dental care as a social, moral, and even patriotic issue.

Options :

1. ✖ Socially, morally and even patriotically
2. ✖ Social, moral and also a patriotic
3. ✖ Social, moral or patriotic
4. ✔ No substitution required

Question Number : 130 Question Id : 54592723360 Question Type : MCQ Option Shuffling : Yes
Correct Marks : 1 Wrong Marks : 0.25

Select the most appropriate option to substitute the underlined segment in the given sentence. If there is no need to substitute it, select option No substitution required.

As demand for toothbrushes rose, production followed, aided of the development of exciting new materials called plastics.

Options :

1. ✓ aided by
2. ✗ aided with
3. ✗ aided in
4. ✗ No substitutionrequired

Question Number : 130 Question Id : 54592723360 Question Type : MCQ Option Shuffling : Yes
Correct Marks : 1 Wrong Marks : 0.25

Select the most appropriate option to substitute the underlined segment in the given sentence. If there is no need to substitute it, select option No substitution required.

As demand for toothbrushes rose, production followed, aided of the development of exciting new materials called plastics.

Options :

1. ✓ aided by
2. ✗ aided with

3. ✖ aided in

4. ✖ No substitution required

Question Number : 131 Question Id : 54592723361 Question Type : MCQ Option Shuffling : Yes

Correct Marks : 1 Wrong Marks : 0.25

Select the most appropriate word to fill in the blank.

As far as we know, blue feathers in birds have been _____ uncommon through time.

Options :

1. ✔ fairly

2. ✖ hardly

3. ✖ rarely

4. ✖ barely

Question Number : 131 Question Id : 54592723361 Question Type : MCQ Option Shuffling : Yes

Correct Marks : 1 Wrong Marks : 0.25

Select the most appropriate word to fill in the blank.

As far as we know, blue feathers in birds have been _____ uncommon through time.

Options :

1. ✔ fairly

2. ✖ hardly

3. ✖ rarely

4. ✖ barely

Question Number : 132 Question Id : 54592723362 Question Type : MCQ Option Shuffling : Yes
Correct Marks : 1 Wrong Marks : 0.25

Select the most appropriate word to fill in the blank.

Nothing in the wild goes to waste—not _____ a footprint.

Options :

1. ✖ at all

2. ✔ even

3. ✖ only

4. ✖ apart

Question Number : 132 Question Id : 54592723362 Question Type : MCQ Option Shuffling : Yes
Correct Marks : 1 Wrong Marks : 0.25

Select the most appropriate word to fill in the blank.

Nothing in the wild goes to waste—not _____ a footprint.

Options :

1. ✖ at all

2. ✔ even

3. ✖ only

4. ✖ apart

Question Number : 133 Question Id : 54592723363 Question Type : MCQ Option Shuffling : Yes
Correct Marks : 1 Wrong Marks : 0.25

Select the most appropriate word to fill in the blank.

Studies have shown that in areas where elephants change the ecosystem, species biodiversity is _____.

Note: For this question, discrepancy is found in question/answer. So, this question is ignored for all candidates.

Options :

1. great
2. the greatest
3. greater
4. the great

Question Number : 133 Question Id : 54592723363 Question Type : MCQ Option Shuffling : Yes

Correct Marks : 1 Wrong Marks : 0.25

Select the most appropriate word to fill in the blank.

Studies have shown that in areas where elephants change the ecosystem, species biodiversity is _____.

Note: For this question, discrepancy is found in question/answer. So, this question is ignored for all candidates.

Options :

1. great
2. the greatest
3. greater
4. the great

Question Number : 134 Question Id : 54592723364 Question Type : MCQ Option Shuffling : Yes
Correct Marks : 1 Wrong Marks : 0.25

Select the most appropriate word to fill in the blank.

Many animals provide the essential service of creating habitat and housing for other species that might not be able to do it for _____.

Options :

1. ✖ itself
2. ✖ oneself
3. ✖ selves
4. ✔ themselves

Question Number : 134 Question Id : 54592723364 Question Type : MCQ Option Shuffling : Yes
Correct Marks : 1 Wrong Marks : 0.25

Select the most appropriate word to fill in the blank.

Many animals provide the essential service of creating habitat and housing for other species that might not be able to do it for _____.

Options :

1. ✖ itself
2. ✖ oneself
3. ✖ selves

4. ✓ themselves

Question Number : 135 Question Id : 54592723365 Question Type : MCQ Option Shuffling : Yes
Correct Marks : 1 Wrong Marks : 0.25

Select the most appropriate word to fill in the blank.

Frog juice is a traditional preparation, _____ raw, skinned frogs blended with ingredients such as maca root and honey.

Options :

1. ✓ made of
2. ✗ made in
3. ✗ made up
4. ✗ made with

Question Number : 135 Question Id : 54592723365 Question Type : MCQ Option Shuffling : Yes
Correct Marks : 1 Wrong Marks : 0.25

Select the most appropriate word to fill in the blank.

Frog juice is a traditional preparation, _____ raw, skinned frogs blended with ingredients such as maca root and honey.

Options :

1. ✓ made of

2. ✖ made in

3. ✖ made up

4. ✖ made with

Question Number : 136 Question Id : 54592723366 Question Type : MCQ Option Shuffling : Yes
Correct Marks : 1 Wrong Marks : 0.25

Select the most appropriate word to fill in the blank.

Giant squids have _____ eyes of any animal that we know—and they're extremely sensitive.

Options :

1. ✖ bigger

2. ✔ the biggest

3. ✖ the bigger

4. ✖ big

Question Number : 136 Question Id : 54592723366 Question Type : MCQ Option Shuffling : Yes
Correct Marks : 1 Wrong Marks : 0.25

Select the most appropriate word to fill in the blank.

Giant squids have _____ eyes of any animal that we know—and they're extremely sensitive.

Options :

1. ✖ bigger

2. ✔ the biggest

3. ✖ the bigger

4. ✖ big

Question Number : 137 Question Id : 54592723367 Question Type : MCQ Option Shuffling : Yes

Correct Marks : 1 Wrong Marks : 0.25

Select the most appropriate word to fill in the blank.

When she looked closer, she could see that the heads and jaws of this population of fish were _____ than normal.

Options :

1. ✖ big

2. ✖ more bigger

3. ✔ much bigger

4. ✖ most bigger

Question Number : 137 Question Id : 54592723367 Question Type : MCQ Option Shuffling : Yes

Correct Marks : 1 Wrong Marks : 0.25

Select the most appropriate word to fill in the blank.

When she looked closer, she could see that the heads and jaws of this population of fish were _____ than normal.

Options :

1. ✖ big

2. ✖ more bigger

3. ✔ much bigger

4. ✖ most bigger

Question Number : 138 Question Id : 54592723368 Question Type : MCQ Option Shuffling : Yes
Correct Marks : 1 Wrong Marks : 0.25

Select the most appropriate word to fill in the blank.

Most amphibians are biphasic, meaning they spend their early weeks of life in the water and their adult life _____.

Options :

1. ✖ at the land
2. ✖ in the land
3. ✖ for the land
4. ✔ on land

Question Number : 138 Question Id : 54592723368 Question Type : MCQ Option Shuffling : Yes
Correct Marks : 1 Wrong Marks : 0.25

Select the most appropriate word to fill in the blank.

Most amphibians are biphasic, meaning they spend their early weeks of life in the water and their adult life _____.

Options :

1. ✖ at the land
2. ✖ in the land
3. ✖ for the land
4. ✔ on land

Question Number : 139 Question Id : 54592723369 Question Type : MCQ Option Shuffling : Yes

Correct Marks : 1 Wrong Marks : 0.25

Rearrange the following sentences in their correct order to form a meaningful paragraph.

A: She was the 101st grizzly to get a GPS collar as part of a National Park Service study—hence her name.

B: Sow 101, a grizzly bear, has had a long and productive life.

C: In her first 20 years, she ranged between the National Park and the wild lands outside raising somewhere between three and four sets of cubs.

D: But then, in the early '90s, she began eating garbage and pet food that had been carelessly left out by residents in a suburb north of town.

Options :

1. ✓ BCAD

2. ✗ BCDA

3. ✗ CBDA

4. ✗ CBAD

Question Number : 139 Question Id : 54592723369 Question Type : MCQ Option Shuffling : Yes

Correct Marks : 1 Wrong Marks : 0.25

Rearrange the following sentences in their correct order to form a meaningful paragraph.

A: She was the 101st grizzly to get a GPS collar as part of a National Park Service study—hence her name.

B: Sow 101, a grizzly bear, has had a long and productive life.

C: In her first 20 years, she ranged between the National Park and the wild lands outside raising somewhere between three and four sets of cubs.

D: But then, in the early '90s, she began eating garbage and pet food that had been carelessly left out by residents in a suburb north of town.

Options :

1. ✓ BCAD

2. ✗ BCDA

3. ✗ CBDA

4. ✗ CBAD

Question Number : 140 Question Id : 54592723370 Question Type : MCQ Option Shuffling : Yes

Correct Marks : 1 Wrong Marks : 0.25

A sentence has four parts, rearrange the given parts so as to form a meaningful sentence.

A: lions, hyenas, and painted dogs

B: When a cape buffalo

C: will soon arrive to fight over the carcass.

D: goes down in South Africa,

Options :

1. ✖ BDCA

2. ✔ BDAC

3. ✖ ACBD

4. ✖ ACDB

Question Number : 140 Question Id : 54592723370 Question Type : MCQ Option Shuffling : Yes

Correct Marks : 1 Wrong Marks : 0.25

A sentence has four parts, rearrange the given parts so as to form a meaningful sentence.

A: lions, hyenas, and painted dogs

B: When a cape buffalo

C: will soon arrive to fight over the carcass.

D: goes down in South Africa,

Options :

1. ✖ BDCA

2. ✔ BDAC

3. ✖ ACBD

4. ✖ ACDB

General English2

Group Number :	8
Group Id :	5459271158
Group Maximum Duration :	0
Group Minimum Duration :	0
Show Attended Group? :	No
Edit Attended Group? :	No
Break time:	0
Group Marks:	20
Is this Group for Examiner?:	No
Revisit allowed for group Instructions? :	Yes
Maximum Instruction Time:	0
Minimum Instruction Time:	0

General English2

Section Id :	5459271158
Section Number :	1
Section type :	Online
Mandatory or Optional:	Mandatory
Number of Questions:	16
Number of Questions to be attempted:	16
Section Marks:	20

Sub-Section Number:	1
Sub-Section Id:	5459271388
Question Shuffling Allowed :	Yes

**Question Number : 141 Question Id : 54592723371 Question Type : MCQ Option Shuffling : Yes
Correct Marks : 1 Wrong Marks : 0.25**

Rearrange the following sentences in their correct order to form a meaningful paragraph.

A: A polar researcher turned National Geographic photographer, Bishop was on the first U.S. expedition to summit Everest.

B: On the descent they couldn't find their camp.

C: At 3:30 p.m. on May 22, 1963, he and his climbing partner reached the top, dropped to the ground, and wept.

D: Bishop stamped his feet to warm them but soon felt sharp pain, then numbness.

Options :

1. ✖ ACDB

2. ✖ DCBA

3. ✔ ACBD

4. ✖ DCAB

Question Number : 141 Question Id : 54592723371 Question Type : MCQ Option Shuffling : Yes

Correct Marks : 1 Wrong Marks : 0.25

Rearrange the following sentences in their correct order to form a meaningful paragraph.

A: A polar researcher turned National Geographic photographer, Bishop was on the first U.S. expedition to summit Everest.

B: On the descent they couldn't find their camp.

C: At 3:30 p.m. on May 22, 1963, he and his climbing partner reached the top, dropped to the ground, and wept.

D: Bishop stamped his feet to warm them but soon felt sharp pain, then numbness.

Options :

1. ✘ ACDB

2. ✘ DCBA

3. ✔ ACBD

4. ✘ DCAB

Question Number : 142 Question Id : 54592723372 Question Type : MCQ Option Shuffling : Yes

Correct Marks : 1 Wrong Marks : 0.25

Select the synonym of the given word.

Dominance

Options :

1. ✔ Influence

2. ✘ Aggression

3. ✖ Estimation

4. ✖ Comparison

Question Number : 142 Question Id : 54592723372 Question Type : MCQ Option Shuffling : Yes
Correct Marks : 1 Wrong Marks : 0.25

Select the synonym of the given word.

Dominance

Options :

1. ✔ Influence

2. ✖ Aggression

3. ✖ Estimation

4. ✖ Comparison

Question Number : 143 Question Id : 54592723373 Question Type : MCQ Option Shuffling : Yes
Correct Marks : 1 Wrong Marks : 0.25

Select the Synonym of the given word.

Substantial

Options :

1. ✖ Worthless

2. ✔ Considerable

3. ✖ Durable

4. ✖ Profitable

Question Number : 143 Question Id : 54592723373 Question Type : MCQ Option Shuffling : Yes
Correct Marks : 1 Wrong Marks : 0.25

Select the Synonym of the given word.

Substantial

Options :

1. ✘ Worthless
2. ✔ Considerable
3. ✘ Durable
4. ✘ Profitable

Question Number : 144 Question Id : 54592723374 Question Type : MCQ Option Shuffling : Yes
Correct Marks : 1 Wrong Marks : 0.25

Select the antonym of the given word.

Awkward

Options :

1. ✘ Inappropriate
2. ✘ Jealous
3. ✔ Convenient
4. ✘ Embarrassing

Question Number : 144 Question Id : 54592723374 Question Type : MCQ Option Shuffling : Yes
Correct Marks : 1 Wrong Marks : 0.25

Select the antonym of the given word.

Awkward

Options :

1. ✖ Inappropriate
2. ✖ Jealous
3. ✔ Convenient
4. ✖ Embarrassing

Question Number : 145 Question Id : 54592723375 Question Type : MCQ Option Shuffling : Yes
Correct Marks : 1 Wrong Marks : 0.25

Select the antonym of the given word.

Suppress

Options :

1. ✔ Encourage
2. ✖ Arrest
3. ✖ Forfeit
4. ✖ Conquer

Question Number : 145 Question Id : 54592723375 Question Type : MCQ Option Shuffling : Yes
Correct Marks : 1 Wrong Marks : 0.25

Select the antonym of the given word.

Suppress

Options :

1. ✔ Encourage
2. ✖ Arrest
3. ✖ Forfeit
4. ✖ Conquer

Question Number : 146 Question Id : 54592723376 Question Type : MCQ Option Shuffling : Yes

Correct Marks : 1 Wrong Marks : 0.25

Select the correct pair of homophones to fill in the blanks.

On a private patch of island we have a large green _____
safari tent.

We are going to be out there to _____ every vote and prove to
people that we should be in there representing this part of the
country.

Options :

1. ✖ canvas, canvas

2. ✔ canvas, canvass

3. ✖ canvass, canvas

4. ✖ canvass, canvass

Question Number : 146 Question Id : 54592723376 Question Type : MCQ Option Shuffling : Yes

Correct Marks : 1 Wrong Marks : 0.25

Select the correct pair of homophones to fill in the blanks.

On a private patch of island we have a large green _____ safari tent.

We are going to be out there to _____ every vote and prove to people that we should be in there representing this part of the country.

Options :

1. ✘ canvas, canvas
2. ✔ canvas, canvass
3. ✘ canvass, canvas
4. ✘ canvass, canvass

Question Number : 147 Question Id : 54592723377 Question Type : MCQ Option Shuffling : Yes

Correct Marks : 1 Wrong Marks : 0.25

Select the wrongly spelt word.

Options :

1. ✔ Interuption
2. ✘ Quantities
3. ✘ Imbalance
4. ✘ Proposition

Question Number : 147 Question Id : 54592723377 Question Type : MCQ Option Shuffling : Yes

Correct Marks : 1 Wrong Marks : 0.25

Select the wrongly spelt word.

Options :

1. ✓ Interruption
2. ✗ Quantities
3. ✗ Imbalance
4. ✗ Proposition

Question Number : 148 Question Id : 54592723378 Question Type : MCQ Option Shuffling : Yes

Correct Marks : 1 Wrong Marks : 0.25

Select the wrongly spelt word.

Options :

1. ✗ Extraordinary
2. ✓ Confidential
3. ✗ Delegate
4. ✗ Humorist

Question Number : 148 Question Id : 54592723378 Question Type : MCQ Option Shuffling : Yes

Correct Marks : 1 Wrong Marks : 0.25

Select the wrongly spelt word.

Options :

1. ✗ Extraordinary
2. ✓ Confidential

3. ✖ Delegate

4. ✖ Humorist

Question Number : 149 Question Id : 54592723379 Question Type : MCQ Option Shuffling : Yes
Correct Marks : 1 Wrong Marks : 0.25

Select the wrongly spelt word.

Options :

1. ✖ Embroidery

2. ✖ Confirmation

3. ✔ Interference

4. ✖ Tournament

Question Number : 149 Question Id : 54592723379 Question Type : MCQ Option Shuffling : Yes
Correct Marks : 1 Wrong Marks : 0.25

Select the wrongly spelt word.

Options :

1. ✖ Embroidery

2. ✖ Confirmation

3. ✔ Interference

4. ✖ Tournament

Question Number : 150 Question Id : 54592723380 Question Type : MCQ Option Shuffling : Yes
Correct Marks : 1 Wrong Marks : 0.25

Select the meaning of the given idiom.

Hit the sack

Options :

1. ✓ To go to sleep
2. ✗ A difficult task
3. ✗ Harm physically
4. ✗ To fail a test

Question Number : 150 Question Id : 54592723380 Question Type : MCQ Option Shuffling : Yes
Correct Marks : 1 Wrong Marks : 0.25

Select the meaning of the given idiom.

Hit the sack

Options :

1. ✓ To go to sleep
2. ✗ A difficult task
3. ✗ Harm physically
4. ✗ To fail a test

Question Number : 151 Question Id : 54592723381 Question Type : MCQ Option Shuffling : Yes
Correct Marks : 1 Wrong Marks : 0.25

Select the meaning of the given idiom.

Give the cold shoulder

Options :

1. ✖ To impress
2. ✔ Intentionally ignore someone
3. ✖ Donate money
4. ✖ To give favors to somebody

Question Number : 151 Question Id : 54592723381 Question Type : MCQ Option Shuffling : Yes
Correct Marks : 1 Wrong Marks : 0.25

Select the meaning of the given idiom.

Give the cold shoulder

Options :

1. ✖ To impress
2. ✔ Intentionally ignore someone
3. ✖ Donate money
4. ✖ To give favors to somebody

Question Number : 152 Question Id : 54592723382 Question Type : MCQ Option Shuffling : Yes
Correct Marks : 1 Wrong Marks : 0.25

Select the meaning of the given idiom.

Throw caution to the wind

Options :

1. ✖ The end of something
2. ✖ To be without any money
3. ✔ To take a risk
4. ✖ To disagree

Question Number : 152 Question Id : 54592723382 Question Type : MCQ Option Shuffling : Yes
Correct Marks : 1 Wrong Marks : 0.25

Select the meaning of the given idiom.

Throw caution to the wind

Options :

1. ✖ The end of something
2. ✖ To be without any money
3. ✔ To take a risk
4. ✖ To disagree

Question Number : 153 Question Id : 54592723383 Question Type : MCQ Option Shuffling : Yes
Correct Marks : 1 Wrong Marks : 0.25

Select the word which means the same as the group of words given.

Friendly and welcoming to visitors or guests.

Options :

1. ✔ Hospitable
2. ✖ Hooligan
3. ✖ Henchman

4. ✖ Honorary

Question Number : 153 Question Id : 54592723383 Question Type : MCQ Option Shuffling : Yes
Correct Marks : 1 Wrong Marks : 0.25

Select the word which means the same as the group of words given.

Friendly and welcoming to visitors or guests.

Options :

1. ✔ Hospitable
2. ✖ Hooligan
3. ✖ Henchman
4. ✖ Honorary

Question Number : 154 Question Id : 54592723384 Question Type : MCQ Option Shuffling : Yes
Correct Marks : 1 Wrong Marks : 0.25

Select the word which means the same as the group of words given.

Famous or well known, typically for some bad quality or deed.

Options :

1. ✖ Naïve
2. ✔ Notorious
3. ✖ Notary
4. ✖ Nausea

Question Number : 154 Question Id : 54592723384 Question Type : MCQ Option Shuffling : Yes
Correct Marks : 1 Wrong Marks : 0.25

Select the word which means the same as the group of words given.

Famous or well known, typically for some bad quality or deed.

Options :

1. ✖ Naïve
2. ✔ Notorious
3. ✖ Notary
4. ✖ Nausea

Question Number : 155 Question Id : 54592723385 Question Type : MCQ Option Shuffling : Yes
Correct Marks : 1 Wrong Marks : 0.25

Select the word which means the same as the group of words given.

A young person with exceptional qualities or abilities.

Options :

1. ✖ Prologue
2. ✖ Pedestrian
3. ✔ Prodigy
4. ✖ Pedantic

Question Number : 155 Question Id : 54592723385 Question Type : MCQ Option Shuffling : Yes
Correct Marks : 1 Wrong Marks : 0.25

Select the word which means the same as the group of words given.

A young person with exceptional qualities or abilities.

Options :

1. ✖ Prologue
2. ✖ Pedestrian
3. ✔ Prodigy
4. ✖ Pedantic

Sub-Section Number:	2
Sub-Section Id:	5459271389
Question Shuffling Allowed :	Yes

Question Id : 54592723386 Question Type : COMPREHENSION Sub Question Shuffling Allowed : Yes Group Comprehension Questions : No

Question Numbers : (156 to 160)

Question Label : Comprehension

Read the given passage and answer the questions that follow.

All it took West Bengal Chief Minister Mamata Banerjee to end the week-long strike by junior doctors in the State was a meeting with the agitating medicos and a credible assurance that their safety was a priority for her government. The attack on a junior doctor on June 10 over the death of a patient had sparked the agitation, which spread to other parts of the country when it appeared that the State government was reluctant to negotiate with the striking doctors. Now that Ms. Banerjee has reached out to young doctors and conceded that their demands are genuine, the government, in West Bengal and elsewhere, must focus on addressing the deficiencies afflicting the health-care system as a whole. Reprisal attacks on doctors by agitated relatives of patients who die during treatment are known to happen. Such violence is invariably the result of systemic problems that adversely affect optimal attention to patients, such as infrastructural and manpower constraints. It is apparent that doctors work in stressful environments, sometimes under political pressure with regard to admissions. Several States have enacted laws to protect doctors and other health-care personnel from violence. Last week, Union Health Minister Harsh Vardhan wrote to State governments highlighting the need for stringent action against anyone who assaults doctors. He asked States that do not have a law to protect doctors against violence to enact one, and circulated a 2017 draft of a law that envisaged imprisonment besides recovery of compensation from perpetrators for loss or damage to property.

However, is such a law really effective? Ironically, West Bengal, the epicenter of a strike that involved nearly the entire medical fraternity across the country, has such a law too. Like the law in most other States, the West Bengal Act provides for a three-year prison term and a fine, which could go up to ₹50,000, to anyone indulging in violence against any “Medicare service person”, which covers doctors, nurses, medical and nursing students and paramedical staff. The offence is cognizable and non-bailable. It also provides for recovery of compensation for loss. Many other States have similar laws, with the one in Tamil Nadu providing for a prison term that could go up to 10 years. It is clear that having this law did not prevent the incident that sparked the latest agitation. There are no figures available on how many times the medical service person protection law has been invoked. In any case, causing simple or grievous injuries to anyone is a criminal offence under the Indian Penal Code. Treating the issue as a law and order problem is just one way. The real solution may lie in improving health infrastructure, counselling patients about possible adverse treatment outcomes, and providing basic security in medical institutions.

Sub questions

Question Number : 156 Question Id : 54592723387 Question Type : MCQ Option Shuffling : Yes

Correct Marks : 1 Wrong Marks : 0.25

The given passage deals with one of the following issues:

Options :

1. ✓ Violence against doctors
2. ✗ Deficiencies affecting the health care
3. ✗ Medical service person protection law
4. ✗ Basic security in medical institutions.

Question Number : 157 Question Id : 54592723388 Question Type : MCQ Option Shuffling : Yes

Correct Marks : 1 Wrong Marks : 0.25

According to the author of the passage, what is the cause behind the violent attacks on doctors?

Options :

1. ✗ Stressful environments
2. ✓ Systematic problems in the infrastructure and manpower limitations.
3. ✗ Lack of proper treatment and care of the patient
4. ✗ Lack of attention to patients.

Question Number : 158 Question Id : 54592723389 Question Type : MCQ Option Shuffling : Yes

Correct Marks : 1 Wrong Marks : 0.25

According to the author, the real solution to the problem lies in:

Options :

1. ✗ Improving the health infrastructure
2. ✗ Counselling Patients
3. ✗ Basic security in medical institutions.

4. ✓ All of the above

Question Number : 159 Question Id : 54592723390 Question Type : MCQ Option Shuffling : Yes

Correct Marks : 1 Wrong Marks : 0.25

Why does the author of the passage feel that the law that prevents violence against doctors is ineffective?

Options :

1. ✖ There is lack of laws to protect doctors against violence.
2. ✖ Unwillingness of the government machinery and the state.
3. ✖ Lack of support from the medical fraternity.
4. ✓ The incidents of violence against doctors occurred in the states that already had a law to protect doctors against violence.

Question Number : 160 Question Id : 54592723391 Question Type : MCQ Option Shuffling : Yes

Correct Marks : 1 Wrong Marks : 0.25

According to the given passage, what ended the week-long strike by junior doctors in the state?

Options :

1. ✖ Imprisonment besides recovery of compensation from perpetrators for loss or damage to property.
2. ✖ The need for stringent action against anyone who assaults doctors.
3. ✖ An attack on a junior doctor on June 10 over the death of a patient.
4. ✓ A meeting with the protesting doctors and an assurance of their safety by the chief minister.

Question Id : 54592723386 Question Type : COMPREHENSION Sub Question Shuffling Allowed : Yes Group Comprehension Questions : No

Question Numbers : (156 to 160)

Question Label : Comprehension

Read the given passage and answer the questions that follow.

All it took West Bengal Chief Minister Mamata Banerjee to end the week-long strike by junior doctors in the State was a meeting with the agitating medicos and a credible assurance that their safety was a priority for her government. The attack on a junior doctor on June 10 over the death of a patient had sparked the agitation, which spread to other parts of the country when it appeared that the State government was reluctant to negotiate with the striking doctors. Now that Ms. Banerjee has reached out to young doctors and conceded that their demands are genuine, the government, in West Bengal and elsewhere, must focus on addressing the deficiencies afflicting the health-care system as a whole. Reprisal attacks on doctors by agitated relatives of patients who die during treatment are known to happen. Such violence is invariably the result of systemic problems that adversely affect optimal attention to patients, such as infrastructural and manpower constraints. It is apparent that doctors work in stressful environments, sometimes under political pressure with regard to admissions. Several States have enacted laws to protect doctors and other health-care personnel from violence. Last week, Union Health Minister Harsh Vardhan wrote to State governments highlighting the need for stringent action against anyone who assaults doctors. He asked States that do not have a law to protect doctors against violence to enact one, and circulated a 2017 draft of a law that envisaged imprisonment besides recovery of compensation from perpetrators for loss or damage to property.

However, is such a law really effective? Ironically, West Bengal, the epicenter of a strike that involved nearly the entire medical fraternity across the country, has such a law too. Like the law in most other States, the West Bengal Act provides for a three-year prison term and a fine, which could go up to ₹50,000, to anyone indulging in violence against any "Medicare service person", which covers doctors, nurses, medical and nursing students and paramedical staff. The offence is cognizable and non-bailable. It also provides for recovery of compensation for loss. Many other States have similar laws, with the one in Tamil Nadu providing for a prison term that could go up to 10 years. It is clear that having this law did not prevent the incident that sparked the latest agitation. There are no figures available on how many times the medical service person protection law has been invoked. In any case, causing simple or grievous injuries to anyone is a criminal offence under the Indian Penal Code. Treating the issue as a law and order problem is just one way. The real solution may lie in improving health infrastructure, counselling patients about possible adverse treatment outcomes, and providing basic security in medical institutions.

Sub questions

Question Number : 156 Question Id : 54592723387 Question Type : MCQ Option Shuffling : Yes
Correct Marks : 1 Wrong Marks : 0.25

The given passage deals with one of the following issues:

Options :

1. ✓ Violence against doctors
2. ✗ Deficiencies affecting the health care
3. ✗ Medical service person protection law
4. ✗ Basic security in medical institutions.

Question Number : 157 Question Id : 54592723388 Question Type : MCQ Option Shuffling : Yes
Correct Marks : 1 Wrong Marks : 0.25

According to the author of the passage, what is the cause behind the violent attacks on doctors?

Options :

1. ✗ Stressful environments
2. ✓ Systematic problems in the infrastructure and manpower limitations.
3. ✗ Lack of proper treatment and care of the patient
4. ✗ Lack of attention to patients.

Question Number : 158 Question Id : 54592723389 Question Type : MCQ Option Shuffling : Yes
Correct Marks : 1 Wrong Marks : 0.25

According to the author, the real solution to the problem lies in:

Options :

1. ✖ Improving the health infrastructure
2. ✖ Counselling Patients
3. ✖ Basic security in medical institutions.
4. ✔ All of the above

Question Number : 159 Question Id : 54592723390 Question Type : MCQ Option Shuffling : Yes
Correct Marks : 1 Wrong Marks : 0.25

Why does the author of the passage feel that the law that prevents violence against doctors is ineffective?

Options :

1. ✖ There is lack of laws to protect doctors against violence.
2. ✖ Unwillingness of the government machinery and the state.
3. ✖ Lack of support from the medical fraternity.
4. ✔ The incidents of violence against doctors occurred in the states that already had a law to protect doctors against violence.

Question Number : 160 Question Id : 54592723391 Question Type : MCQ Option Shuffling : Yes
Correct Marks : 1 Wrong Marks : 0.25

According to the given passage, what ended the week-long strike by junior doctors in the state?

Options :

1. ✖ Imprisonment besides recovery of compensation from perpetrators for loss or damage to property.

2. ✖ The need for stringent action against anyone who assaults doctors.

3. ✖ An attack on a junior doctor on June 10 over the death of a patient.

4. ✔ A meeting with the protesting doctors and an assurance of their safety by the chief minister.

General Hindi1

Group Number :	9
Group Id :	5459271159
Group Maximum Duration :	0
Group Minimum Duration :	0
Show Attended Group? :	No
Edit Attended Group? :	No
Break time:	0
Group Marks:	20
Is this Group for Examiner?:	No
Revisit allowed for group Instructions? :	Yes
Maximum Instruction Time:	0
Minimum Instruction Time:	0

General Hindi1

Section Id :	5459271159
Section Number :	1
Section type :	Online
Mandatory or Optional:	Mandatory
Number of Questions:	20
Number of Questions to be attempted:	20
Section Marks:	20

Sub-Section Number:	1
Sub-Section Id:	5459271390

Question Number : 161 Question Id : 54592723392 Question Type : MCQ Option Shuffling : Yes
Correct Marks : 1 Wrong Marks : 0.25

खुशमिज़ाज़ में उपसर्ग कौन-सा है?

Options :

1. * खु
2. ✓ खुश
3. * खुशी
4. * मिज़ाज़

Question Number : 161 Question Id : 54592723392 Question Type : MCQ Option Shuffling : Yes
Correct Marks : 1 Wrong Marks : 0.25

खुशमिज़ाज़ में उपसर्ग कौन-सा है?

Options :

1. * खु
2. ✓ खुश
3. * खुशी
4. * मिज़ाज़

Question Number : 162 Question Id : 54592723393 Question Type : MCQ Option Shuffling : Yes
Correct Marks : 1 Wrong Marks : 0.25

चतुराई शब्द में प्रत्यय कौन-सा है?

Options :

1. * ई
2. ✓ आई
3. * आइ
4. * चतुर

Question Number : 162 Question Id : 54592723393 Question Type : MCQ Option Shuffling : Yes
Correct Marks : 1 Wrong Marks : 0.25

चतुराई शब्द में प्रत्यय कौन-सा है?

Options :

1. ✖ ई
2. ✔ आई
3. ✖ आइ
4. ✖ चतुर

Question Number : 163 Question Id : 54592723394 Question Type : MCQ Option Shuffling : Yes
Correct Marks : 1 Wrong Marks : 0.25

आप अपने आप बुला लाइए। वाक्य में सर्वनाम का कौन सा भेद है?

Options :

1. ✖ निश्चयवाचक
2. ✖ अनिश्चयवाचक
3. ✖ संबंधवाचक
4. ✔ निजवाचक

Question Number : 163 Question Id : 54592723394 Question Type : MCQ Option Shuffling : Yes
Correct Marks : 1 Wrong Marks : 0.25

आप अपने आप बुला लाइए। वाक्य में सर्वनाम का कौन सा भेद है?

Options :

1. ✖ निश्चयवाचक
2. ✖ अनिश्चयवाचक
3. ✖ संबंधवाचक
4. ✔ निजवाचक

Question Number : 164 Question Id : 54592723395 Question Type : MCQ Option Shuffling : Yes
Correct Marks : 1 Wrong Marks : 0.25

निम्नलिखित में से कौन-सा शब्द अव्ययीभाव समास है?

Options :

1. ✖ दाल-रोटी
2. ✖ पीतांबर
3. ✔ यथाशक्ति

4. * राजकुमार

Question Number : 164 Question Id : 54592723395 Question Type : MCQ Option Shuffling : Yes
Correct Marks : 1 Wrong Marks : 0.25

निम्नलिखित में से कौन-सा शब्द अव्ययीभाव समास है?

Options :

1. * दाल-रोटी
2. * पीतांबर
3. ✓ यथाशक्ति
4. * राजकुमार

Question Number : 165 Question Id : 54592723396 Question Type : MCQ Option Shuffling : Yes
Correct Marks : 1 Wrong Marks : 0.25

दिए गए विकल्पों में कौन-सा विशेषण का भेद नहीं है?

Options :

1. * संख्यावाचक
2. * गुणवाचक
3. * सार्वनामिक
4. ✓ जातिवाचक

Question Number : 165 Question Id : 54592723396 Question Type : MCQ Option Shuffling : Yes
Correct Marks : 1 Wrong Marks : 0.25

दिए गए विकल्पों में कौन-सा विशेषण का भेद नहीं है?

Options :

1. * संख्यावाचक
2. * गुणवाचक
3. * सार्वनामिक
4. ✓ जातिवाचक

Question Number : 166 Question Id : 54592723397 Question Type : MCQ Option Shuffling : Yes
Correct Marks : 1 Wrong Marks : 0.25

उर्वर शब्द का विलोम शब्द कौन-सा है?

Options :

1. ✓ ऊसर
2. * उपजाऊ
3. * उचला
4. * उत्तर

Question Number : 166 Question Id : 54592723397 Question Type : MCQ Option Shuffling : Yes
Correct Marks : 1 Wrong Marks : 0.25

उर्वर शब्द का विलोम शब्द कौन-सा है?

Options :

1. ✓ ऊसर
2. * उपजाऊ
3. * उचला
4. * उत्तर

Question Number : 167 Question Id : 54592723398 Question Type : MCQ Option Shuffling : Yes
Correct Marks : 1 Wrong Marks : 0.25

कौन-सा शब्द 'अतिथि' का पर्याय नहीं है?

Options :

1. * मेहमान
2. * पाहुना
3. ✓ भगवान
4. * अभ्यागत

Question Number : 167 Question Id : 54592723398 Question Type : MCQ Option Shuffling : Yes
Correct Marks : 1 Wrong Marks : 0.25

कौन-सा शब्द 'अतिथि' का पर्याय नहीं है?

Options :

1. * मेहमान
2. * पाहुना
3. ✓ भगवान

4. * अभ्यागत

Question Number : 168 Question Id : 54592723399 Question Type : MCQ Option Shuffling : Yes

Correct Marks : 1 Wrong Marks : 0.25

निम्नलिखित में से कौन-सा एक युग्म समानार्थी है?

Options :

1. ✓ सेवक-दास
2. * दाएँ- बाएँ
3. * आदान-प्रदान
4. * खोना-पाना

Question Number : 168 Question Id : 54592723399 Question Type : MCQ Option Shuffling : Yes

Correct Marks : 1 Wrong Marks : 0.25

निम्नलिखित में से कौन-सा एक युग्म समानार्थी है?

Options :

1. ✓ सेवक-दास
2. * दाएँ- बाएँ
3. * आदान-प्रदान
4. * खोना-पाना

Question Number : 169 Question Id : 54592723400 Question Type : MCQ Option Shuffling : Yes

Correct Marks : 1 Wrong Marks : 0.25

प्रश्न में दिए गए चार विकल्पों में से असंगत(बेमेल) शब्द का चयन करें।

Note: For this question, discrepancy is found in question/answer. So, this question is ignored for all candidates.

Options :

1. घर
2. प्रियजन
3. परिवार
4. बच्चे

Question Number : 169 Question Id : 54592723400 Question Type : MCQ Option Shuffling : Yes

Correct Marks : 1 Wrong Marks : 0.25

प्रश्न में दिए गए चार विकल्पों में से असंगत(बेमेल) शब्द का चयन करें।

Note: For this question, discrepancy is found in question/answer. So, this question is ignored for all candidates.

Options :

1. घर
2. प्रियजन
3. परिवार
4. बच्चें

Question Number : 170 Question Id : 54592723401 Question Type : MCQ Option Shuffling : Yes

Correct Marks : 1 Wrong Marks : 0.25

"युद्ध में स्थिर रहने वाला"- वाक्यांश के लिए दिए गए विकल्पों में से उपर्यक्त शब्द चुनिए:

Options :

1. * युद्धगामी
2. * युद्धकांक्षी
3. ✓ युधिष्ठिर
4. * द्युति

Question Number : 170 Question Id : 54592723401 Question Type : MCQ Option Shuffling : Yes

Correct Marks : 1 Wrong Marks : 0.25

"युद्ध में स्थिर रहने वाला"- वाक्यांश के लिए दिए गए विकल्पों में से उपर्यक्त शब्द चुनिए:

Options :

1. * युद्धगामी
2. * युद्धकांक्षी
3. ✓ युधिष्ठिर
4. * द्युति

Question Number : 171 Question Id : 54592723402 Question Type : MCQ Option Shuffling : Yes

Correct Marks : 1 Wrong Marks : 0.25

मनोरथ का शाब्दिक अर्थ है:

Options :

1. * मनोरम
2. ✓ इच्छा
3. * सुन्दर
4. * मनोराग

Question Number : 171 Question Id : 54592723402 Question Type : MCQ Option Shuffling : Yes

Correct Marks : 1 Wrong Marks : 0.25

मनोरथ का शाब्दिक अर्थ है:

Options :

1. * मनोरम
2. ✓ इच्छा
3. * सुन्दर
4. * मनोराग

Question Number : 172 Question Id : 54592723403 Question Type : MCQ Option Shuffling : Yes

Correct Marks : 1 Wrong Marks : 0.25

भिन्नार्थक शब्द का सही उदाहरण है:

Options :

1. ✓ अन्न-अन्य
2. * लाभ-हानि
3. * अग्नि-पानी
4. * क्रय-विक्रय

Question Number : 172 Question Id : 54592723403 Question Type : MCQ Option Shuffling : Yes

Correct Marks : 1 Wrong Marks : 0.25

भिन्नार्थक शब्द का सही उदाहरण है:

Options :

1. ✓ अन्न-अन्य
2. * लाभ-हानि

3. * अग्नि-पानी

4. * क्रय-विक्रय

Question Number : 173 Question Id : 54592723404 Question Type : MCQ Option Shuffling : Yes
Correct Marks : 1 Wrong Marks : 0.25

उपयुक्त विलोम से रिक्त स्थान की पूर्ति कीजिए।

सृष्टि और _____ ईश्वर के खेल है।

Options :

1. * अमृत

2. ✓ प्रलय

3. * उन्नति

4. * अनुराग

Question Number : 173 Question Id : 54592723404 Question Type : MCQ Option Shuffling : Yes
Correct Marks : 1 Wrong Marks : 0.25

उपयुक्त विलोम से रिक्त स्थान की पूर्ति कीजिए।

सृष्टि और _____ ईश्वर के खेल है।

Options :

1. * अमृत

2. ✓ प्रलय

3. * उन्नति

4. * अनुराग

Question Number : 174 Question Id : 54592723405 Question Type : MCQ Option Shuffling : Yes
Correct Marks : 1 Wrong Marks : 0.25

नीचे दिए गए अशुद्ध शब्द का शुद्ध रूप कौन-सा है?

पुरूस्कार

Options :

1. ✓ पुरस्कार
2. ✘ पुरिस्कार
3. ✘ परिस्कार
4. ✘ पुस्कार

Question Number : 174 Question Id : 54592723405 Question Type : MCQ Option Shuffling : Yes
Correct Marks : 1 Wrong Marks : 0.25

नीचे दिए गए अशुद्ध शब्द का शुद्ध रूप कौन-सा है?

पुरूस्कार

Options :

1. ✓ पुरस्कार
2. ✘ पुरिस्कार
3. ✘ परिस्कार
4. ✘ पुस्कार

Question Number : 175 Question Id : 54592723406 Question Type : MCQ Option Shuffling : Yes
Correct Marks : 1 Wrong Marks : 0.25

"दूसरों के दोष ढूँढ़ने वाला"- वाक्यांश के लिए दिए गए विकल्पों में से उपर्युक्त शब्द चुनिए।

Options :

1. ✘ आत्मश्लाघी
2. ✓ छिद्रान्वेशी
3. ✘ नैयायिक
4. ✘ निस्पृह

Question Number : 175 Question Id : 54592723406 Question Type : MCQ Option Shuffling : Yes
Correct Marks : 1 Wrong Marks : 0.25

"दूसरों के दोष ढूँढ़ने वाला"- वाक्यांश के लिए दिए गए विकल्पों में से उपर्युक्त शब्द चुनिए।

Options :

1. ✖ आत्मश्लाघी
2. ✔ छिद्रान्वेशी
3. ✖ नैयायिक
4. ✖ निस्पृह

Question Number : 176 Question Id : 54592723407 Question Type : MCQ Option Shuffling : Yes
Correct Marks : 1 Wrong Marks : 0.25

अर्थ की दृष्टि से निम्नलिखित वाक्य का प्रकार बताइए।

"यदि मैं होता तो लड़ाई न होने देता!"

Options :

1. ✖ संदेहवाचक
2. ✖ विधानवाचक
3. ✖ इच्छावाचक
4. ✔ संकेतवाचक

Question Number : 176 Question Id : 54592723407 Question Type : MCQ Option Shuffling : Yes
Correct Marks : 1 Wrong Marks : 0.25

अर्थ की दृष्टि से निम्नलिखित वाक्य का प्रकार बताइए।

"यदि मैं होता तो लड़ाई न होने देता!"

Options :

1. ✖ संदेहवाचक
2. ✖ विधानवाचक
3. ✖ इच्छावाचक
4. ✔ संकेतवाचक

Question Number : 177 Question Id : 54592723408 Question Type : MCQ Option Shuffling : Yes
Correct Marks : 1 Wrong Marks : 0.25

निम्नलिखित में से शब्द "भगवान" का स्त्रीलिंग क्या होगा?

Options :

1. * भगवानी
2. ✓ भगवती
3. * भाग्यवणी
4. * भाग्यवादी

Question Number : 177 Question Id : 54592723408 Question Type : MCQ Option Shuffling : Yes
Correct Marks : 1 Wrong Marks : 0.25

निम्नलिखित में से शब्द "भगवान" का स्त्रीलिंग क्या होगा?

Options :

1. * भगवानी
2. ✓ भगवती
3. * भाग्यवणी
4. * भाग्यवादी

Question Number : 178 Question Id : 54592723409 Question Type : MCQ Option Shuffling : Yes
Correct Marks : 1 Wrong Marks : 0.25

निम्नलिखित में से शब्द "पाठक" का बहुवचन रूप क्या होगा?

Options :

1. * पाठकी
2. * पाठकों
3. ✓ पाठकवृन्द
4. * पाठकाओं

Question Number : 178 Question Id : 54592723409 Question Type : MCQ Option Shuffling : Yes
Correct Marks : 1 Wrong Marks : 0.25

निम्नलिखित में से शब्द "पाठक" का बहुवचन रूप क्या होगा?

Options :

1. * पाठकी
2. * पाठकों
3. ✓ पाठकवृन्द

4. * पाठकाओं

Question Number : 179 Question Id : 54592723410 Question Type : MCQ Option Shuffling : Yes

Correct Marks : 1 Wrong Marks : 0.25

निम्नलिखित में से शुद्ध वाक्य कौन-सा है?

Options :

1. * अचानक उसके सीने पर दर्द हुआ?
2. * अचानक उसके सोने का दर्द हुआ
3. * अचानक उसके सीने से दर्द हुआ
4. ✓ अचानक उसके सीने में दर्द हुआ

Question Number : 179 Question Id : 54592723410 Question Type : MCQ Option Shuffling : Yes

Correct Marks : 1 Wrong Marks : 0.25

निम्नलिखित में से शुद्ध वाक्य कौन-सा है?

Options :

1. * अचानक उसके सीने पर दर्द हुआ?
2. * अचानक उसके सोने का दर्द हुआ
3. * अचानक उसके सीने से दर्द हुआ
4. ✓ अचानक उसके सीने में दर्द हुआ

Question Number : 180 Question Id : 54592723411 Question Type : MCQ Option Shuffling : Yes

Correct Marks : 1 Wrong Marks : 0.25

निम्नलिखित वाक्य के लिए दिए गए विकल्पों में से उसके प्रकार का चयन करें।

वह व्यक्ति सच्चा राष्ट्रभक्त है, जो राष्ट्र के लिए मर मिटे।

Options :

1. * सरलवाक्य
2. * संयुक्तवाक्य
3. ✓ मिश्रितवाक्य
4. * उपवाक्य

Question Number : 180 Question Id : 54592723411 Question Type : MCQ Option Shuffling : Yes

Correct Marks : 1 Wrong Marks : 0.25

निम्नलिखित वाक्य के लिए दिए गए विकल्पों में से उसके प्रकार का चयन करें।

वह व्यक्ति सच्चा राष्ट्रभक्त है, जो राष्ट्र के लिए मर मिटे।

Options :

1. * सरलवाक्य
2. * संयुक्तवाक्य
3. ✓ मिश्रितवाक्य
4. * उपवाक्य

General Hindi2

Group Number :	10
Group Id :	5459271160
Group Maximum Duration :	0
Group Minimum Duration :	120
Show Attended Group? :	No
Edit Attended Group? :	No
Break time:	0
Group Marks:	20
Is this Group for Examiner?:	No
Revisit allowed for group Instructions? :	Yes
Maximum Instruction Time:	0
Minimum Instruction Time:	0

General Hindi2

Section Id :	5459271160
Section Number :	1
Section type :	Online
Mandatory or Optional:	Mandatory
Number of Questions:	16
Number of Questions to be attempted:	16
Section Marks:	20

Sub-Section Number:	1
Sub-Section Id:	5459271391
Question Shuffling Allowed :	Yes

Question Number : 181 Question Id : 54592723412 Question Type : MCQ Option Shuffling : Yes

Correct Marks : 1 Wrong Marks : 0.25

"माता जी सबको खाना खिलाएँगी" यह वाक्य किस काल का उदाहरण है?

Options :

1. * सामान्य वर्तमान
2. * सामान्य भविष्यत
3. * आसन्नभूत
4. ✓ सामान्य भविष्यत

Question Number : 181 Question Id : 54592723412 Question Type : MCQ Option Shuffling : Yes

Correct Marks : 1 Wrong Marks : 0.25

"माता जी सबको खाना खिलाएँगी" यह वाक्य किस काल का उदाहरण है?

Options :

1. * सामान्य वर्तमान
2. * सामान्य भविष्यत
3. * आसन्नभूत
4. ✓ सामान्य भविष्यत

Question Number : 182 Question Id : 54592723413 Question Type : MCQ Option Shuffling : Yes

Correct Marks : 1 Wrong Marks : 0.25

निम्नलिखित में से शुद्ध वाक्य कौन-सा है?

Options :

1. * राम को अनुत्तीर्ण होने की आशा है।
2. ✓ राम को अनुत्तीर्ण होने की आशंका है।
3. * राम को शंका है होने की अनुत्तीर्ण
4. * राम को संदेह है अनुत्तीर्ण की।

Question Number : 182 Question Id : 54592723413 Question Type : MCQ Option Shuffling : Yes

Correct Marks : 1 Wrong Marks : 0.25

निम्नलिखित में से शुद्ध वाक्य कौन-सा है?

Options :

1. ✖ राम को अनुत्तीर्ण होने की आशा है।
2. ✔ राम को अनुत्तीर्ण होने की आशंका है।
3. ✖ राम को शंका है होने की अनुत्तीर्ण
4. ✖ राम को संदेह है अनुत्तीर्ण की।

Question Number : 183 Question Id : 54592723414 Question Type : MCQ Option Shuffling : Yes
Correct Marks : 1 Wrong Marks : 0.25

"लू चल रही थी इसलिए मैं घर से बाहर नहीं निकल सका।" यह किस प्रकार का वाक्य है?

Options :

1. ✖ सरल वाक्य
2. ✔ संयुक्त वाक्य
3. ✖ मिश्रित वाक्य
4. ✖ उपवाक्य

Question Number : 183 Question Id : 54592723414 Question Type : MCQ Option Shuffling : Yes
Correct Marks : 1 Wrong Marks : 0.25

"लू चल रही थी इसलिए मैं घर से बाहर नहीं निकल सका।" यह किस प्रकार का वाक्य है?

Options :

1. ✖ सरल वाक्य
2. ✔ संयुक्त वाक्य
3. ✖ मिश्रित वाक्य
4. ✖ उपवाक्य

Question Number : 184 Question Id : 54592723415 Question Type : MCQ Option Shuffling : Yes
Correct Marks : 1 Wrong Marks : 0.25

परसर्ग ने' के कारण क्रिया सदा किस काल में होती है?

Options :

1. ✔ भूतकाल

2. * वर्तमान काल
3. * पूर्णकाल
4. * भविष्यत काल

Question Number : 184 Question Id : 54592723415 Question Type : MCQ Option Shuffling : Yes
Correct Marks : 1 Wrong Marks : 0.25

परसर्ग ने' के कारण क्रिया सदा किस काल में होती है?

Options :

1. ✓ भूतकाल
2. * वर्तमान काल
3. * पूर्णकाल
4. * भविष्यत काल

Question Number : 185 Question Id : 54592723416 Question Type : MCQ Option Shuffling : Yes
Correct Marks : 1 Wrong Marks : 0.25

निम्नलिखित में से अशुद्ध वाक्य कौन-सा है?

Note: For this question, discrepancy is found in question/answer. So, this question is ignored for all candidates.

Options :

1. उसने पुस्तक खरीद लिया।
2. उसने पुस्तक खरीद लिए।
3. उसने पुस्तक खरीद ली।
4. उसने पुस्तकों खरीद ली।

Question Number : 185 Question Id : 54592723416 Question Type : MCQ Option Shuffling : Yes
Correct Marks : 1 Wrong Marks : 0.25

निम्नलिखित में से अशुद्ध वाक्य कौन-सा है?

Note: For this question, discrepancy is found in question/answer. So, this question is ignored for all candidates.

Options :

1. उसने पुस्तक खरीद लिया।
2. उसने पुस्तक खरीद लिए।

3. उसने पुस्तक खरीद ली।

4. उसने पुस्तकों खरीद ली।

Question Number : 186 Question Id : 54592723417 Question Type : MCQ Option Shuffling : Yes

Correct Marks : 1 Wrong Marks : 0.25

गुरु का स्त्रीलिंग क्या होगा?

Options :

1. ✓ गुरुआइन

2. ✘ गुरो

3. ✘ गुरूीन

4. ✘ गुरियाईन

Question Number : 186 Question Id : 54592723417 Question Type : MCQ Option Shuffling : Yes

Correct Marks : 1 Wrong Marks : 0.25

गुरु का स्त्रीलिंग क्या होगा?

Options :

1. ✓ गुरुआइन

2. ✘ गुरो

3. ✘ गुरूीन

4. ✘ गुरियाईन

Question Number : 187 Question Id : 54592723418 Question Type : MCQ Option Shuffling : Yes

Correct Marks : 1 Wrong Marks : 0.25

निम्नलिखित में से बलवान का स्त्रीलिंग क्या होगा?

Options :

1. ✘ बलवानी

2. ✘ बलवानि

3. ✘ बलीवान

4. ✓ बलवती

Question Number : 187 Question Id : 54592723418 Question Type : MCQ Option Shuffling : Yes

Correct Marks : 1 Wrong Marks : 0.25

निम्नलिखित में से बलवान का स्त्रीलिंग क्या होगा?

Options :

1. * बलवानी
2. * बलवानि
3. * बलीवान
4. ✓ बलवती

Question Number : 188 Question Id : 54592723419 Question Type : MCQ Option Shuffling : Yes
Correct Marks : 1 Wrong Marks : 0.25

गाल बजाना मुहावरें का अर्थ क्या है?

Options :

1. ✓ बढ़ा-चढ़ा कर अपनी प्रशंसा करना
2. * बड़ी बात को थोड़ें शब्दों में कहना
3. * बनी बात बिगाड़ देना
4. * पिछली बातें याद करना

Question Number : 188 Question Id : 54592723419 Question Type : MCQ Option Shuffling : Yes
Correct Marks : 1 Wrong Marks : 0.25

गाल बजाना मुहावरें का अर्थ क्या है?

Options :

1. ✓ बढ़ा-चढ़ा कर अपनी प्रशंसा करना
2. * बड़ी बात को थोड़ें शब्दों में कहना
3. * बनी बात बिगाड़ देना
4. * पिछली बातें याद करना

Question Number : 189 Question Id : 54592723420 Question Type : MCQ Option Shuffling : Yes
Correct Marks : 1 Wrong Marks : 0.25

लोकोक्ति का अर्थ है:

Options :

1. * लोक में अप्रचलित उक्ति
2. ✓ लोक में प्रचलित उक्ति

3. * गूढार्थ

4. * व्यंगार्थ

Question Number : 189 Question Id : 54592723420 Question Type : MCQ Option Shuffling : Yes
Correct Marks : 1 Wrong Marks : 0.25

लोकोक्ति का अर्थ है:

Options :

1. * लोक में अप्रचलित उक्ति

2. ✓ लोक में प्रचलित उक्ति

3. * गूढार्थ

4. * व्यंगार्थ

Question Number : 190 Question Id : 54592723421 Question Type : MCQ Option Shuffling : Yes
Correct Marks : 1 Wrong Marks : 0.25

"घर का भेदी लंका ढाए" एक:

Options :

1. * मुहावरा है।

2. * शब्दकोश है।

3. ✓ लोकाक्ति है।

4. * दक्षिण का भाग है।

Question Number : 190 Question Id : 54592723421 Question Type : MCQ Option Shuffling : Yes
Correct Marks : 1 Wrong Marks : 0.25

"घर का भेदी लंका ढाए" एक:

Options :

1. * मुहावरा है।

2. * शब्दकोश है।

3. ✓ लोकाक्ति है।

4. * दक्षिण का भाग है।

Question Number : 191 Question Id : 54592723422 Question Type : MCQ Option Shuffling : Yes
Correct Marks : 1 Wrong Marks : 0.25

मुहावरा अपना वास्तविक अर्थ:

Options :

1. * निरंतर बदलता है।
2. ✓ कभी नहीं बदलता है।
3. * निरर्थक होता है।
4. * यदाकदा बदलता है।

Question Number : 191 Question Id : 54592723422 Question Type : MCQ Option Shuffling : Yes

Correct Marks : 1 Wrong Marks : 0.25

मुहावरा अपना वास्तविक अर्थ:

Options :

1. * निरंतर बदलता है।
2. ✓ कभी नहीं बदलता है।
3. * निरर्थक होता है।
4. * यदाकदा बदलता है।

Question Number : 192 Question Id : 54592723423 Question Type : MCQ Option Shuffling : Yes

Correct Marks : 1 Wrong Marks : 0.25

जैसे नागनाथ वैसे साँपनाथ लोकोक्ति का अर्थ है:

Options :

1. * नागनाथ साँपनाथ भाई-भाई।
2. ✓ दोनों एक समान है।
3. * नागनाथ अलग साँपनाथ अलग
4. * नागनाथ अलग

Question Number : 192 Question Id : 54592723423 Question Type : MCQ Option Shuffling : Yes

Correct Marks : 1 Wrong Marks : 0.25

जैसे नागनाथ वैसे साँपनाथ लोकोक्ति का अर्थ है:

Options :

1. * नागनाथ साँपनाथ भाई-भाई।
2. ✓ दोनों एक समान है।

3. * नागनाथ अलग साँपनाथ अलग

4. * नागनाथ अलग

Question Number : 193 Question Id : 54592723424 Question Type : MCQ Option Shuffling : Yes

Correct Marks : 1 Wrong Marks : 0.25

नीचे दिए गए वाक्य के रिक्त स्थान को उपयुक्त मुहावरे से पूरा कीजिए।

सिपाही की _____ ही मोटर चालान रद्द हो गया।

Options :

1. * जेब कटते

2. ✓ जेब गरम होते

3. * जेब रखते

4. * जेब ढीली होते

Question Number : 193 Question Id : 54592723424 Question Type : MCQ Option Shuffling : Yes

Correct Marks : 1 Wrong Marks : 0.25

नीचे दिए गए वाक्य के रिक्त स्थान को उपयुक्त मुहावरे से पूरा कीजिए

|

सिपाही की _____ ही मोटर चालान रद्द हो गया।

Options :

1. * जेब कटते

2. ✓ जेब गरम होते

3. * जेब रखते

4. * जेब ढीली होते

Question Number : 194 Question Id : 54592723425 Question Type : MCQ Option Shuffling : Yes

Correct Marks : 1 Wrong Marks : 0.25

नीचे दिए गए वाक्य के रिक्त स्थान को उपयुक्त मुहावरे से पूरा कीजिए।

तुम मेरे साथ रहो, तुम्हारा _____ न होगा।

Options :

1. ✓ बाल बाँका
2. * बाल बाँधना
3. * बाल फैलाना
4. * बाल काटना

Question Number : 194 Question Id : 54592723425 Question Type : MCQ Option Shuffling : Yes

Correct Marks : 1 Wrong Marks : 0.25

नीचे दिए गए वाक्य के रिक्त स्थान को उपयुक्त मुहावरे से पूरा कीजिए ।

तुम मेरे साथ रहो, तुम्हारा _____ न होगा।

Options :

1. ✓ बाल बाँका
2. * बाल बाँधना
3. * बाल फैलाना
4. * बाल काटना

Question Number : 195 Question Id : 54592723426 Question Type : MCQ Option Shuffling : Yes

Correct Marks : 1 Wrong Marks : 0.25

निम्नलिखित अधूरे वाक्यों को अधोलिखित चार मुहावरों में से किसी एक से भरिए।

वह समझाने पर भी नहीं समझता। उसकी आँखों _____।

Options :

1. * में खून उतर आया है।
2. * पर किसी का जादू चढ़ गया है।
3. * में किसी ने धूल झोंक दी है।

4. ✓ पर परदा पड़ गया है।

Question Number : 195 Question Id : 54592723426 Question Type : MCQ Option Shuffling : Yes

Correct Marks : 1 Wrong Marks : 0.25

निम्नलिखित अधूरे वाक्यों को अधोलिखित चार मुहावरों में से किसी एक से भरिए।

वह समझाने पर भी नहीं समझता। उसकी आँखों _____।

Options :

1. ✖ मैं खून उतर आया है।
2. ✖ पर किसी का जादू चढ़ गया है।
3. ✖ मैं किसी ने धूल झोंक दी है।
4. ✓ पर परदा पड़ गया है।

Sub-Section Number:	2
Sub-Section Id:	5459271392
Question Shuffling Allowed :	Yes

Question Id : 54592723427 Question Type : COMPREHENSION Sub Question Shuffling Allowed : Yes Group Comprehension Questions : No

Question Numbers : (196 to 200)

Question Label : Comprehension

निम्नलिखित गद्यांश को पढ़कर उनसे संबंधित प्रश्नों के उत्तर दीजिए।

तुम्हें क्या करना चाहिए, इसका ठीक-ठीक उत्तर तुम्हीं को देना होगा, दूसरा कोई नहीं दे सकता। कैसा भी विश्वास-पात्र मित्र हो, तुम्हारे इस काम को वह अपने ऊपर नहीं ले सकता। हम अनुभवी लोगों की बातों को आदर के साथ चुने, बुद्धिमानों की सलाह को कृतज्ञतापूर्वक मानें, पर इस बात को निश्चित समझकर की हमारे कामों से ही हमारी रक्षा व हमारा पतन होता, हमें अपने विचार और निर्णय की स्वतंत्रता को दृढ़तापूर्वक बनाए रखना चाहिए। जिस पुरुष की दृष्टि सदा नीची रहती है उसका सिर कभी ऊपर न होगा। नीची दृष्टि रखने से यद्यपि रास्ते पर रहेंगे, पर इस बात को न देखेंगे कि यह रास्ता कहाँ ले जाता है। चित्त की स्वतंत्रता का मतलब चेषटा की कठोरता या प्रकृति की उग्रता नहीं है। अपने व्यवहार में कोमल रहो और अपने उद्देश्यों को उच्च रखो इस प्रकार नम्र और उच्चशय दोनो बनो। अपने मन को कभी मरा हुआ न रखो। जो मनुष्य अपना लक्ष्य जितना ही ऊपर रखता है, उतना ही उसका तीर ऊपर जाता है।

संसार में ऐसे-ऐसे दृढ़ चित्त मनुष्य हो गए हैं जिन्होंने मरते दम तक सत्य की टेक नहीं छोड़ी, अपनी आत्मा के विरुद्ध कोई काम नहीं किया। राजा हरिश्चन्द्र के ऊपर इतनी विपत्तियाँ आई, पर उन्होंने अपना सत्य नहीं छोड़ा।

Sub questions

Question Number : 196 Question Id : 54592723428 Question Type : MCQ Option Shuffling : Yes

Correct Marks : 1 Wrong Marks : 0.25

उपरोक्त गद्यांश के अनुसार मनुष्य को अपने निर्णय किस आधार पर लेने चाहिए।

Options :

1. ✓ अपने विवेक के आधार पर
2. * मित्रों की सलाह पर
3. * अपने अनुभव के आधार पर
4. * मित्रों के अनुभवों को जानकर

Question Number : 197 Question Id : 54592723429 Question Type : MCQ Option Shuffling : Yes

Correct Marks : 1 Wrong Marks : 0.25

मन को मरा हुआ रखने का आशय है।

Options :

1. * निराश रहना

2. * उदास रहना

3. ✓ उत्साहहीन रहना

4. * शांत रहना

Question Number : 198 Question Id : 54592723430 Question Type : MCQ Option Shuffling : Yes

Correct Marks : 1 Wrong Marks : 0.25

स्वतंत्रता' का विलोम छाँटिए:

Options :

1. * स्वाधीनता

2. * गणतंत्रता

3. ✓ परतंत्रता

4. * पराधीनता

Question Number : 199 Question Id : 54592723431 Question Type : MCQ Option Shuffling : Yes

Correct Marks : 1 Wrong Marks : 0.25

उपरोक्त गद्यांश के अनुसार निम्नलिखित वाक्य का प्रकार बताइए।

'अपने व्यवहार में कोमल रहो और अपने उद्देश्यों को उच्च रखो।'

Options :

1. * सरल

2. * मिश्र

3. * जटिल

4. ✓ संयुक्त

Question Number : 200 Question Id : 54592723432 Question Type : MCQ Option Shuffling : Yes

Correct Marks : 1 Wrong Marks : 0.25

उपरोक्त गद्यांश का उपयुक्त शीर्षक क्या होगा?

Options :

1. * स्वावलंबी बनो

2. * स्वाभिमानी बनो

3. ✓ स्वतंत्रचेता बनो

4. * दृढ़प्रतिज्ञ बनो

Question Label : Comprehension

निम्नलिखित गद्यांश को पढ़कर उनसे संबंधित प्रश्नों के उत्तर दीजिए।

तुम्हें क्या करना चाहिए, इसका ठीक-ठीक उत्तर तुम्हीं को देना होगा, दूसरा कोई नहीं दे सकता। कैसा भी विश्वास-पात्र मित्र हो, तुम्हारे इस काम को वह अपने ऊपर नहीं ले सकता। हम अनुभवी लोगों की बातों को आदर के साथ चुने, बुद्धिमानों की सलाह को कृतज्ञतापूर्वक मानें, पर इस बात को निश्चित समझकर कि हमारे कामों से ही हमारी रक्षा व हमारा पतन होता, हमें अपने विचार और निर्णय की स्वतंत्रता को दृढ़तापूर्वक बनाए रखना चाहिए। जिस पुरुष की दृष्टि सदा नीची रहती है उसका सिर कभी ऊपर न होगा। नीची दृष्टि रखने से यद्यपि रास्तें पर रहेंगे, पर इस बात को न देखेंगे कि यह रास्ता कहाँ ले जाता है। चित्त की स्वतंत्रता का मतलब चेष्टा की कठोरता या प्रकृति की उग्रता नहीं है। अपने व्यवहार में कोमल रहो और अपने उद्देश्यों को उच्च रखो इस प्रकार नम्र और उच्चशय दोनों बनो। अपने मन को कभी मरा हुआ न रखो। जो मनुष्य अपना लक्ष्य जितना ही ऊपर रखता है, उतना ही उसका तीर ऊपर जाता है।

संसार में ऐसे-ऐसे दृढ़ चित्त मनुष्य हो गए हैं जिन्होंने मरते दम तक सत्य की टेक नहीं छोड़ी, अपनी आत्मा के विरुद्ध कोई काम नहीं किया।

राजा हरिश्चन्द्र के ऊपर इतनी विपत्तियाँ आईं, पर उन्होंने अपना सत्य नहीं छोड़ा।

Sub questions

उपरोक्त गद्यांश के अनुसार मनुष्य को अपने निर्णय किस आधार पर लेने चाहिए।

Options :

1. ✓ अपने विवेक के आधार पर
2. ✗ मित्रों की सलाह पर
3. ✗ अपने अनुभव के आधार पर
4. ✗ मित्रों के अनुभवों को जानकर

Question Number : 197 Question Id : 54592723429 Question Type : MCQ Option Shuffling : Yes
Correct Marks : 1 Wrong Marks : 0.25

मन को मरा हुआ रखने का आशय है।

Options :

1. ✗ निराश रहना
2. ✗ उदास रहना
3. ✓ उत्साहहीन रहना
4. ✗ शांत रहना

Question Number : 198 Question Id : 54592723430 Question Type : MCQ Option Shuffling : Yes
Correct Marks : 1 Wrong Marks : 0.25

स्वतंत्रता' का विलोम छाँटिए:

Options :

1. ✗ स्वाधीनता
2. ✗ गणतंत्रता
3. ✓ परतंत्रता
4. ✗ पराधीनता

Question Number : 199 Question Id : 54592723431 Question Type : MCQ Option Shuffling : Yes
Correct Marks : 1 Wrong Marks : 0.25

उपरोक्त गद्यांश के अनुसार निम्नलिखित वाक्य का प्रकार बताइए।

'अपने व्यवहार में कोमल रहो और अपने उद्देश्यों को उच्च रखो।'

Options :

1. ✖ सरल
2. ✖ मिश्र
3. ✖ जटिल
4. ✔ संयुक्त

Question Number : 200 Question Id : 54592723432 Question Type : MCQ Option Shuffling : Yes
Correct Marks : 1 Wrong Marks : 0.25

उपरोक्त गद्यांश का उपयुक्त शीर्षक क्या होगा?

Options :

1. ✖ स्वावलंबी बनो
2. ✖ स्वाभिमानी बनो
3. ✔ स्वतंत्रचेता बनो
4. ✖ दृढ़प्रतिज्ञ बनो