

Education Consultant India Ltd.

Notations :

1.Options shown in **green** color and with ✓ icon are correct.

2.Options shown in **red** color and with ✖ icon are incorrect.

Question Paper Name:	Grade IV DASS Junior Assistant 03rd September 2019 Shift 3
Subject Name:	GRADE IV DASS JUNIOR ASSISTANT
Creation Date:	2019-09-04 10:13:55
Duration:	120
Total Marks:	200
Display Marks:	Yes
Share Answer Key With Delivery Engine:	No
Actual Answer Key:	Yes
Calculator:	None
Magnifying Glass Required?:	No
Ruler Required?:	No
Eraser Required?:	No
Scratch Pad Required?:	No
Rough Sketch/Notepad Required?:	No
Protractor Required?:	No
Show Watermark on Console?:	Yes
Highlighter:	No
Auto Save on Console?:	No

Mental Ability1

Group Number :	1
Group Id :	5459271041
Group Maximum Duration :	0
Group Minimum Duration :	0
Show Attended Group? :	No
Edit Attended Group? :	No
Break time:	0
Group Marks:	20
Is this Group for Examiner?:	No
Revisit allowed for group Instructions? :	Yes
Maximum Instruction Time:	0
Minimum Instruction Time:	0

Mental Ability1

Section Id :	5459271041
Section Number :	1

Section type :	Online
Mandatory or Optional:	Mandatory
Number of Questions:	20
Number of Questions to be attempted:	20
Section Marks:	20

Sub-Section Number:	1
Sub-Section Id:	5459271249
Question Shuffling Allowed :	Yes

Question Number : 1 Question Id : 54592721009 Question Type : MCQ Option Shuffling : Yes
Correct Marks : 1 Wrong Marks : 0.25

From the given responses, find the missing letter in the series:

AD, BH, CL, DP, ?

Options :

1. ✘ EU

2. ✘ KL

3. ✘ MN

4. ✔ ET

Question Number : 1 Question Id : 54592721009 Question Type : MCQ Option Shuffling : Yes
Correct Marks : 1 Wrong Marks : 0.25

दिए गए विकल्पों में से श्रेणी में लुप्त अक्षर को ज्ञात करें:

AD, BH, CL, DP, ?

Options :

1. ✘ EU

2. ✘ KL

3. ✘ MN

4. ✔ ET

Question Number : 2 Question Id : 54592721010 Question Type : MCQ Option Shuffling : Yes
Correct Marks : 1 Wrong Marks : 0.25

Find out the next term.

G9K, M15Q, S21W, ?

Options :

1. ✖ W5E
2. ✔ Y1C
3. ✖ Z2B
4. ✖ A6C

Question Number : 2 Question Id : 54592721010 Question Type : MCQ Option Shuffling : Yes
Correct Marks : 1 Wrong Marks : 0.25

निर्देश : अगला पद ज्ञात करें।

G9K, M15Q, S21W, ?

Options :

1. ✖ W5E
2. ✔ Y1C
3. ✖ Z2B
4. ✖ A6C

Question Number : 3 Question Id : 54592721011 Question Type : MCQ Option Shuffling : Yes
Correct Marks : 1 Wrong Marks : 0.25

If all the Letters of the word 'SEAT' are arranged according to Dictionary then which word will come Third from the right end?

Options :

1. ✖ T
2. ✔ E
3. ✖ S

4. ✖ A

Question Number : 3 Question Id : 54592721011 Question Type : MCQ Option Shuffling : Yes
Correct Marks : 1 Wrong Marks : 0.25

यदि शब्द SEAT के सभी अक्षरों को शब्दकोश के अनुसार व्यवस्थित किया जाता है तो कौनसा शब्द सही दाएं से तीसरे स्थान पर आएगा?

Options :

1. ✖ T

2. ✔ E

3. ✖ S

4. ✖ A

Question Number : 4 Question Id : 54592721012 Question Type : MCQ Option Shuffling : Yes
Correct Marks : 1 Wrong Marks : 0.25

Find the odd one out from the given alternatives.

Options :

1. ✖ stool

2. ✖ Sofa set

3. ✔ Carpet

4. ✖ Bench

Question Number : 4 Question Id : 54592721012 Question Type : MCQ Option Shuffling : Yes
Correct Marks : 1 Wrong Marks : 0.25

दिए गए विकल्पों में से विषम ज्ञात करें।

Options :

1. ✖ तिपाई

2. ✖ सोफा सेट

3. ✔ गलीचा

4. ✖ बेंच

Question Number : 5 Question Id : 54592721013 Question Type : MCQ Option Shuffling : Yes

Correct Marks : 1 Wrong Marks : 0.25

In each of the following questions, certain pairs of words are given, out of which the words in all pairs except one, bear a certain common relationship. Choose the pair in which the words are differently related.

Options :

1. * Actor : Singing
2. * Dancer : Direction
3. * Actor : Choreography
4. ✓ Farmer : Farming

Question Number : 5 Question Id : 54592721013 Question Type : MCQ Option Shuffling : Yes

Correct Marks : 1 Wrong Marks : 0.25

निम्नलिखित प्रत्येक प्रश्न में, कुछ निश्चित शब्द दिए गए हैं, जिनमें से एक को छोड़कर सभी जोड़े में शब्द एक निश्चित सामान्य संबंध है। उस जोड़ी को चुनें जिसमें शब्द अलग तरह से संबंधित हैं।

Options :

1. * अभिनेता : गायन
2. * नर्तकी : निदेशन
3. * अभिनेता: कोरियोग्राफी
4. ✓ किसान : खेती

Question Number : 6 Question Id : 54592721014 Question Type : MCQ Option Shuffling : Yes

Correct Marks : 1 Wrong Marks : 0.25

Choose the odd one from the given alternatives.

Options :

1. * CF : CZ
2. * DI : DY
3. * GN : GZ
4. ✓ EJ : EY

Question Number : 6 Question Id : 54592721014 Question Type : MCQ Option Shuffling : Yes

Correct Marks : 1 Wrong Marks : 0.25

दिए गए विकल्पों में से विषम को चुनिए।

Options :

1. ✖ CF : CZ

2. ✖ DI : DY

3. ✖ GN : GZ

4. ✔ EJ : EY

Question Number : 7 Question Id : 54592721015 Question Type : MCQ Option Shuffling : Yes

Correct Marks : 1 Wrong Marks : 0.25

In the following question, select the related letter/word/number from the given alternatives.

PAINTING : ARTIST :: Cook: _____

Options :

1. ✖ Singer

2. ✖ Music

3. ✖ Novel

4. ✔ Meal

Question Number : 7 Question Id : 54592721015 Question Type : MCQ Option Shuffling : Yes

Correct Marks : 1 Wrong Marks : 0.25

निम्नलिखित प्रश्न में दिए गए विकल्पों में से सम्बन्धित अक्षर/शब्द/संख्या को चुनिए।

चित्र : कलाकार :: रसोइया : _____

Options :

1. ✖ गायक

2. ✖ संगीत

3. ✖ उपन्यास

4. ✔ भोजन

Question Number : 8 Question Id : 54592721016 Question Type : MCQ Option Shuffling : Yes
Correct Marks : 1 Wrong Marks : 0.25

In the following question, select the related letter/word/number from the given alternatives.

ZAB : DEF :: _____ : NOP

Options :

1. ✖ GHI

2. ✖ JHI

3. ✖ GIH

4. ✔ HIJ

Question Number : 8 Question Id : 54592721016 Question Type : MCQ Option Shuffling : Yes
Correct Marks : 1 Wrong Marks : 0.25

निम्नलिखित प्रश्न में दिए गए विकल्पों में से सम्बन्धित अक्षर/शब्द/संख्या को चुनिए।

ZAB : DEF :: _____ : NOP

Options :

1. ✖ GHI

2. ✖ JHI

3. ✖ GIH

4. ✔ HIJ

Question Number : 9 Question Id : 54592721017 Question Type : MCQ Option Shuffling : Yes
Correct Marks : 1 Wrong Marks : 0.25

In the following question, select the related letter/word/number from the given alternatives.

CG : EI :: _____

Options :

1. ✖ FK : JK
2. ✖ IJ : KH
3. ✖ GJ : LM
4. ✔ FJ : GK

Question Number : 9 Question Id : 54592721017 Question Type : MCQ Option Shuffling : Yes
Correct Marks : 1 Wrong Marks : 0.25

निम्नलिखित प्रश्न में दिए गए विकल्पों में से सम्बन्धित अक्षर/शब्द/संख्या को चुनिए।

CG : EI :: _____

Options :

1. ✖ FK : JK
2. ✖ IJ : KH
3. ✖ GJ : LM
4. ✔ FJ : GK

Question Number : 10 Question Id : 54592721018 Question Type : MCQ Option Shuffling : Yes
Correct Marks : 1 Wrong Marks : 0.25

In a certain code language, if MENTION = 49 and NEUROTIC = 64, then MARVELLOUS = ?

Options :

1. ✖ 121
2. ✖ 81

3. ✖ 88

4. ✔ 100

Question Number : 10 Question Id : 54592721018 Question Type : MCQ Option Shuffling : Yes

Correct Marks : 1 Wrong Marks : 0.25

एक निश्चित कूट भाषा में, यदि MENTION = 49 और NEUROTIC = 64 है, तो MARVELLOUS = ?

Options :

1. ✖ 121

2. ✖ 81

3. ✖ 88

4. ✔ 100

Question Number : 11 Question Id : 54592721019 Question Type : MCQ Option Shuffling : Yes

Correct Marks : 1 Wrong Marks : 0.25

If CCTV is called Television, Television is called Radio, Radio is called Pen and Pen is called Fan, then which is used to write?

Options :

1. ✔ Fan

2. ✖ Pen

3. ✖ CCTV

4. ✖ Radio

Question Number : 11 Question Id : 54592721019 Question Type : MCQ Option Shuffling : Yes

Correct Marks : 1 Wrong Marks : 0.25

यदि सीसीटीवी को टेलीविजन कहा जाता है, टेलीविजन को रेडियो कहा जाता है, रेडियो को पेन और पेन को पंखा कहा जाता है, तो किसका उपयोग लिखने के लिए किया जाता है?

Options :

1. ✔ पंखा

2. ✖ पेन

3. ✖ सीसीटीवी

4. ✖ रेडियो

Question Number : 12 Question Id : 54592721020 Question Type : MCQ Option Shuffling : Yes
Correct Marks : 1 Wrong Marks : 0.25

For the following groups of letters given in Column I, the codes are given in Column II. Answer the question by finding the codes for the groups from the given columns.

Column I	Column II
(A) to provide order time	pa ka mo ni
(B) next time to her	za ni pa tu
(C) place order to provide	ok mo pa ka
(D) once at next order	sa ri za mo

What is the code for 'her' and 'provide'?

Options :

1. ✔ tu and ka

2. ✖ ok and pa

3. ✖ sa and za

4. ✖ ni and tu

Question Number : 12 Question Id : 54592721020 Question Type : MCQ Option Shuffling : Yes
Correct Marks : 1 Wrong Marks : 0.25

कॉलम I में दिए गए अक्षरों के निम्नलिखित समूहों के लिए, कॉलम II में कूट दिए गए हैं। दिए गए कॉलम से समूहों के लिए कूट ढूंढकर प्रश्न का उत्तर दें।

कॉलम I	कॉलम II
(A) to provide order time	pa ka mo ni
(B) next time to her	za ni pa tu
(C) place order to provide	ok mo pa ka
(D) once at next order	sa ri za mo

‘Her’ और ‘provide’के लिए क्या कूट है?

Options :

1. ✓ tu और ka
2. ✗ ok और pa
3. ✗ sa और za
4. ✗ ni और tu

Question Number : 13 Question Id : 54592721021 Question Type : MCQ Option Shuffling : Yes
Correct Marks : 1 Wrong Marks : 0.25

At an Ice cream parlour, six ice creams are arranged in a circular order on the table. Butterscotch is opposite to Kulfi, there is only one ice cream between Chocolate flavor and Strawberry flavor ice cream. Vanilla is to the immediate right of Kulfi. Mango flavor is also one of the ice creams. Which ice cream is placed opposite to Vanilla?

Options :

1. ✗ Chocolate
2. ✗ Strawberry
3. ✗ Vanilla

4. ✓ Either chocolate or strawberry

Question Number : 13 Question Id : 54592721021 Question Type : MCQ Option Shuffling : Yes

Correct Marks : 1 Wrong Marks : 0.25

एक आइसक्रीम पार्लर में, छह आइस क्रीम टेबल पर एक परिपत्र क्रम में व्यवस्थित हैं। बटरस्काॅच, कुल्फी के विपरीत है, चॉकलेट और स्ट्रॉबेरी आइसक्रीम के बीच केवल एक आइसक्रीम है। वेनिला, कुल्फी के निकटतम दाईं ओर है। आम का स्वाद भी आइस क्रीम में से एक है। कौन सी आइसक्रीम वनीला के विपरीत रखी गई है?

Options :

1. ✖ चॉकलेट
2. ✖ स्ट्रॉबेरी
3. ✖ वेनिला
4. ✓ या तो चॉकलेट या स्ट्रॉबेरी

Question Number : 14 Question Id : 54592721022 Question Type : MCQ Option Shuffling : Yes

Correct Marks : 1 Wrong Marks : 0.25

There are five friends -S, K, M, A and R. S is shorter than K but taller than R. M is the tallest. A is a little shorter than K and little taller than S. Who has two persons taller and two persons shorter than him?

Options :

1. ✖ R
2. ✖ S
3. ✖ K
4. ✓ A

Question Number : 14 Question Id : 54592721022 Question Type : MCQ Option Shuffling : Yes

Correct Marks : 1 Wrong Marks : 0.25

पाँच मित्र - S, K, M, A और R हैं। S, K से छोटा है लेकिन R से लंबा है। M सबसे लंबा है। A, K से थोड़ा छोटा है और S से थोड़ा लंबा है। उससे लंबे दो व्यक्ति और छोटे दो व्यक्ति कौन हैं?

Options :

1. ✖ R
2. ✖ S
3. ✖ K
4. ✔ A

Question Number : 15 Question Id : 54592721023 Question Type : MCQ Option Shuffling : Yes
Correct Marks : 1 Wrong Marks : 0.25

Raghav ranks eighth from the top and 31st from the bottom.
How many students are there in the class?

Options :

1. ✔ 38
2. ✖ 43
3. ✖ 40
4. ✖ 39

Question Number : 15 Question Id : 54592721023 Question Type : MCQ Option Shuffling : Yes
Correct Marks : 1 Wrong Marks : 0.25

राघव का शीर्ष से आठवां स्थान है तथा नीचे से इकत्तीसवां स्थान है।
उसकी कक्षा में छात्रों की संख्या कितनी है?

Options :

1. ✔ 38
2. ✖ 43
3. ✖ 40
4. ✖ 39

Question Number : 16 Question Id : 54592721024 Question Type : MCQ Option Shuffling : Yes
Correct Marks : 1 Wrong Marks : 0.25

Eight students L, B, S, D, M, F, O and H are going for a car racing. There are only two cars and following are the conditions:

- (i) Four students can sit in one car.
- (ii) L and D sit in a same car but not with H.
- (iii) B and S cannot sit in the same car in which D is sitting.
- (iv) F will sit in the car along with L and M but certainly not with O.

If H and O are sitting in the same car, who are other two students sitting in the same car?

Options :

- 1. ✓ B and S
- 2. ✗ M and B
- 3. ✗ F and B
- 4. ✗ L and S

Question Number : 16 Question Id : 54592721024 Question Type : MCQ Option Shuffling : Yes
Correct Marks : 1 Wrong Marks : 0.25

आठ छात्र L, B, S, D, M, F, O और H कार रेसिंग के लिए जा रहे हैं। केवल दो कारें हैं और निम्नलिखित स्थितियां हैं:

- (i) एक कार में चार छात्र बैठ सकते हैं।
- (ii) L और D एक ही कार में बैठते हैं लेकिन H के साथ नहीं।
- (iii) B और S उस कार में नहीं बैठ सकते हैं जिसमें D बैठा है।
- (iv) F केवल L और M के साथ बैठेगा लेकिन निश्चित रूप से O के साथ नहीं।

यदि H और O एक ही कार में बैठे हैं, तो उस कार में बैठे अन्य दो छात्रों के नाम बताइए?

Options :

1. ✓ B और S
2. * M और B
3. * F और B
4. * L और S

Question Number : 17 Question Id : 54592721025 Question Type : MCQ Option Shuffling : Yes
Correct Marks : 1 Wrong Marks : 0.25

Pointing to a boy Neha said, 'He is the son of my grandfather's only child. How is she related to that boy?

Options :

1. ✓ Sister
2. * Aunt
3. * Cannot be determined
4. * Mother

Question Number : 17 Question Id : 54592721025 Question Type : MCQ Option Shuffling : Yes

Correct Marks : 1 Wrong Marks : 0.25

एक लड़के की ओर इशारा करते हुए नेहा ने कहा कि "वह मेरे दादाजी के इकलौते पुत्र का पुत्र है | वह उस लड़के से किस प्रकार सम्बंधित है?

Options :

1. ✓ बहन
2. ✗ चाची/मामी /मौसी/बुआ
3. ✗ निर्धारित नहीं किया जा सकता है
4. ✗ माँ

Question Number : 18 Question Id : 54592721026 Question Type : MCQ Option Shuffling : Yes

Correct Marks : 1 Wrong Marks : 0.25

In the question below, there are three statements followed by three conclusions. You have to take the given statements to be true even if they seem to be at variance with commonly known facts and then decide which of the given conclusion logically follow(s) from the given statements.

Statements:

- I. All tires are wires.
- II. All wires are tents.
- III. All tents are cans.

Conclusions:

- I. Some cans are wires.
- II. Some tents are tires.
- III. Some cans are tires.

Options :

1. ✗ only conclusion I and II follow.
2. ✗ only conclusion II and III follow.

3. ✖ only conclusion I and III follow.

4. ✔ All conclusions I, II and III follow.

Question Number : 18 Question Id : 54592721026 Question Type : MCQ Option Shuffling : Yes

Correct Marks : 1 Wrong Marks : 0.25

नीचे दिए गए प्रश्न में तीन कथन और उसके बाद तीन निष्कर्ष दिए गए हैं। आपको दिए गए कथनों को सत्य मानना है भले ही वे सर्वज्ञात तथ्यों से भिन्न प्रतीत होते हों। सभी निष्कर्षों को पढ़िए फिर तय कीजिए कि दिए गए निष्कर्षों में से कौन सा तर्कसंगत रूप से अनुसरण करता है, चाहे सर्वज्ञात तथ्य कुछ भी हों।

कथन:

- I. सभी टायर तार हैं।
- II. सभी तार तम्बू हैं।
- III. सभी तम्बू पीपे हैं।

निष्कर्ष:

- I. कुछ पीपे तार हैं।
- II. कुछ तम्बू टायर हैं।
- III. कुछ पीपे टायर हैं।

Options :

1. ✖ I व II अनुसरण करते हैं
2. ✖ II व III अनुसरण करते हैं
3. ✖ I व III अनुसरण करते हैं
4. ✔ I, II व III सभी अनुसरण करते हैं

Question Number : 19 Question Id : 54592721027 Question Type : MCQ Option Shuffling : Yes

Correct Marks : 1 Wrong Marks : 0.25

For the Assertion (A) and Reason (R) given below, choose the correct alternative from the following:

Assertion (A): Akbar is also known as Jahangir.

Reason (R): Akbar was a strict administrator of Islamic law.

Options :

1. * Both (A) and (R) are true and (R) is the correct explanation of (A)
2. * Both (A) and (R) are true, but (R) is not the correct explanation Of (A)
3. * (A) is true, but (R) is false
4. ✓ Both (A) and (R) are false

Question Number : 19 Question Id : 54592721027 Question Type : MCQ Option Shuffling : Yes

Correct Marks : 1 Wrong Marks : 0.25

नीचे दिए गए अभिकथन (A) और कारण (R) के लिए, निम्न में से सही विकल्प चुनें:

अभिकथन (A): अकबर को जहाँगीर के नाम से भी जाना जाता है।

कारण (R): अकबर इस्लामी कानून का सख्त प्रशासक था।

Options :

1. * दोनों (A) और (R) सही हैं और (R) (A) का सही स्पष्टीकरण है
2. * दोनों (A) और (R) सही हैं, लेकिन (R),(A) का सही स्पष्टीकरण नहीं है
3. * (A) सही है, लेकिन (R) गलत है
4. ✓ दोनों (A) और (R) गलत हैं

Question Number : 20 Question Id : 54592721028 Question Type : MCQ Option Shuffling : Yes

Correct Marks : 1 Wrong Marks : 0.25

In the following question given below, there is an incomplete series as shown by question mark. This term is given as one of the alternatives. Mark the correct alternative.

16, 22, 34, 58, ?

Options :

1. ✓ 106

2. ✗ 108

3. ✗ 98

4. ✗ 172

Question Number : 20 Question Id : 54592721028 Question Type : MCQ Option Shuffling : Yes
Correct Marks : 1 Wrong Marks : 0.25

नीचे दिए गए निम्नलिखित प्रश्न में, एक अधूरी श्रृंखला है जैसा कि प्रश्न चिह्न द्वारा दिखाया गया है। यह शब्द विकल्प के रूप में दिया गया है। सही विकल्प को चिह्नित करें।

16, 22, 34, 58, ?

Options :

1. ✓ 106

2. ✗ 108

3. ✗ 98

4. ✗ 172

Mental Ability2

Group Number :	2
Group Id :	5459271042
Group Maximum Duration :	0
Group Minimum Duration :	0
Show Attended Group? :	No

Edit Attended Group? :	No
Break time:	0
Group Marks:	20
Is this Group for Examiner?:	No
Revisit allowed for group Instructions? :	Yes
Maximum Instruction Time:	0
Minimum Instruction Time:	0

Mental Ability2

Section Id :	5459271042
Section Number :	1
Section type :	Online
Mandatory or Optional:	Mandatory
Number of Questions:	20
Number of Questions to be attempted:	20
Section Marks:	20

Sub-Section Number:	1
Sub-Section Id:	5459271250
Question Shuffling Allowed :	Yes

Question Number : 21 Question Id : 54592721029 Question Type : MCQ Option Shuffling : Yes
Correct Marks : 1 Wrong Marks : 0.25

Find the wrong term in the given series:

2, 3, 6, 10, 18, 27

Options :

1. ✖ 6

2. ✔ 10

3. ✖ 18

4. ✖ 2

Question Number : 21 Question Id : 54592721029 Question Type : MCQ Option Shuffling : Yes
Correct Marks : 1 Wrong Marks : 0.25

दी गई श्रृंखला में गलत पद ज्ञात करें:

2, 3, 6, 10, 18, 27

Options :

1. ✖ 6

2. ✔ 10

3. ✖ 18

4. ✖ 2

Question Number : 22 Question Id : 54592721030 Question Type : MCQ Option Shuffling : Yes
Correct Marks : 1 Wrong Marks : 0.25

Choose the odd one from the given options:

Options :

1. ✖ 544

2. ✖ 373

3. ✖ 463

4. ✔ 455

Question Number : 22 Question Id : 54592721030 Question Type : MCQ Option Shuffling : Yes
Correct Marks : 1 Wrong Marks : 0.25

दिए गए विकल्पों में से भिन्न संख्या को चुनें:

Options :

1. ✖ 544

2. ✖ 373

3. ✖ 463

4. ✔ 455

Question Number : 23 Question Id : 54592721031 Question Type : MCQ Option Shuffling : Yes
Correct Marks : 1 Wrong Marks : 0.25

Choose the odd one from the given options:

Options :

1. ✖ 83, 64

2. ✖ 47, 86

3. ✖ 79, 34

4. ✓ 23, 65

Question Number : 23 Question Id : 54592721031 Question Type : MCQ Option Shuffling : Yes
Correct Marks : 1 Wrong Marks : 0.25

दिए गए विकल्पों में से भिन्न संख्या को चुनें:

Options :

1. ✗ 83, 64

2. ✗ 47, 86

3. ✗ 79, 34

4. ✓ 23, 65

Question Number : 24 Question Id : 54592721032 Question Type : MCQ Option Shuffling : Yes
Correct Marks : 1 Wrong Marks : 0.25

Choose the odd numeral pair/group in each of the following question :

Options :

1. ✗ 1 (9) 2

2. ✗ 5 (854) 9

3. ✓ 4 (442) 7

4. ✗ 3 (243) 6

Question Number : 24 Question Id : 54592721032 Question Type : MCQ Option Shuffling : Yes
Correct Marks : 1 Wrong Marks : 0.25

निम्नलिखित प्रश्न में विषम संख्या वाले युग्म / समूह को चुनिए:

Options :

1. ✗ 1 (9) 2

2. ✗ 5 (854) 9

3. ✓ 4 (442) 7

4. ✗ 3 (243) 6

Question Number : 25 Question Id : 54592721033 Question Type : MCQ Option Shuffling : Yes

Correct Marks : 1 Wrong Marks : 0.25

In the following question, select the related letter/word/number from the given alternatives.

(182, 15, 12)

Options :

1. ✖ (112, 10, 12)

2. ✖ (112, 10, 14)

3. ✔ (112, 10, 11)

4. ✖ (112, 10, 16)

Question Number : 25 Question Id : 54592721033 Question Type : MCQ Option Shuffling : Yes

Correct Marks : 1 Wrong Marks : 0.25

निम्नलिखित प्रश्न में दिए गए विकल्पों में से सम्बन्धित अक्षर/शब्द/संख्या को चुनिए।

(182, 15, 12)

Options :

1. ✖ (112, 10, 12)

2. ✖ (112, 10, 14)

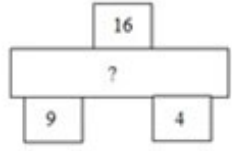
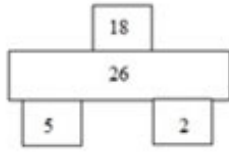
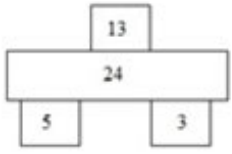
3. ✔ (112, 10, 11)

4. ✖ (112, 10, 16)

Question Number : 26 Question Id : 54592721034 Question Type : MCQ Option Shuffling : Yes

Correct Marks : 1 Wrong Marks : 0.25

Find the missing term?



Options :

1. ✖ 27

2. ✔ 28

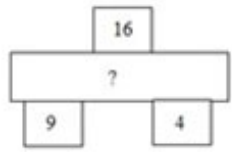
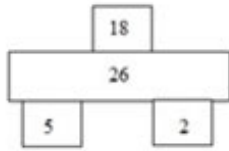
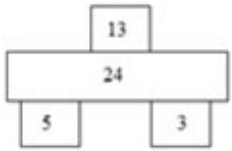
3. ✖ 32

4. ✖ 15

Question Number : 26 Question Id : 54592721034 Question Type : MCQ Option Shuffling : Yes

Correct Marks : 1 Wrong Marks : 0.25

लुप्त पद ज्ञात कीजिये?



Options :

1. ✖ 27

2. ✔ 28

3. ✖ 32

4. ✖ 15

Question Number : 27 Question Id : 54592721035 Question Type : MCQ Option Shuffling : Yes

Correct Marks : 1 Wrong Marks : 0.25

If '+' means '×', '-' means '+', 'x' means '÷' and '÷' means '-', then answer the following questions based on this information.

$$9 - 3 + 2 \div 16 \times 2 = ?$$

Options :

1. ✓ 7

2. ✗ 5

3. ✗ 9

4. ✗ 6

Question Number : 27 Question Id : 54592721035 Question Type : MCQ Option Shuffling : Yes

Correct Marks : 1 Wrong Marks : 0.25

यदि '+' का अर्थ '×', '-' का अर्थ '+', 'x' का अर्थ है '÷' और '÷' का अर्थ है '-', तो इस जानकारी के आधार पर निम्नलिखित प्रश्नों के उत्तर दें।

$$9 - 3 + 2 \div 16 \times 2 = ?$$

Options :

1. ✓ 7

2. ✗ 5

3. ✗ 9

4. ✗ 6

Question Number : 28 Question Id : 54592721036 Question Type : MCQ Option Shuffling : Yes

Correct Marks : 1 Wrong Marks : 0.25

In the question given below, there is a statement followed by two conclusions. You have to take the given statement to be true even if they seem to be at variance with commonly known facts and then decide which of the given conclusion logically follow(s) from the given statements.

Statement:

$$T \geq O = I \geq L = D$$

Conclusions:

I. $D < T$

II. $D = T$

Options :

1. * Only conclusion I follow
2. * Only conclusion II follow
3. ✓ Either Conclusion I or II follow
4. * Neither conclusion I nor II follow

Question Number : 28 Question Id : 54592721036 Question Type : MCQ Option Shuffling : Yes

Correct Marks : 1 Wrong Marks : 0.25

नीचे दिए गए प्रश्न में, एक कथन के बाद दो निष्कर्ष दिए गए हैं। आपको दिए गए कथन को सत्य मानना है, भले ही वे आम तौर पर ज्ञात तथ्यों के साथ विचरण करते हों और फिर तय करें कि दिए गए कथन में से कौन सा निष्कर्ष तार्किक रूप से अनुसरण करता है।

कथन:

$$T \geq O = I \geq L = D$$

निष्कर्ष:

I. $D < T$

II. $D = T$

Options :

1. * केवल निष्कर्ष I अनुसरण करता है
2. * केवल निष्कर्ष II अनुसरण करता है

3. ✓ या तो निष्कर्ष । या ॥ अनुसरण करता है

4. ✖ न तो निष्कर्ष । और न ही ॥ अनुसरण करता है

Question Number : 29 Question Id : 54592721037 Question Type : MCQ Option Shuffling : Yes

Correct Marks : 1 Wrong Marks : 0.25

If $4 \times 24 = 6$, $2 \times 8 = 4$, $1 \times 3 = 3$, then find the value of 7×21 ?

Options :

1. ✖ 42

2. ✖ 21

3. ✓ 3

4. ✖ 63

Question Number : 29 Question Id : 54592721037 Question Type : MCQ Option Shuffling : Yes

Correct Marks : 1 Wrong Marks : 0.25

यदि $4 \times 24 = 6$, $2 \times 8 = 4$, $1 \times 3 = 3$, तो 7×21 का मान ज्ञात कीजिए?

Options :

1. ✖ 42

2. ✖ 21

3. ✓ 3

4. ✖ 63


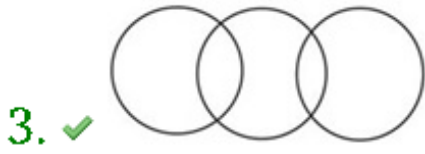
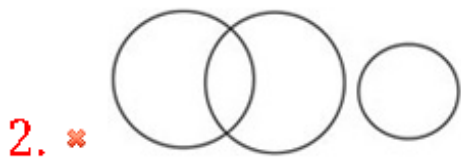
Question Number : 30 Question Id : 54592721038 Question Type : MCQ Option Shuffling : Yes

Correct Marks : 1 Wrong Marks : 0.25

Which of the following diagrams best represents a relationship among Platinum, Ornament and Gold?

Options :

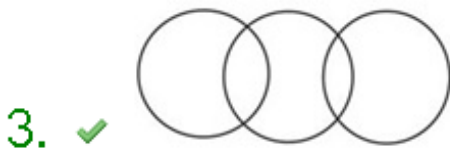
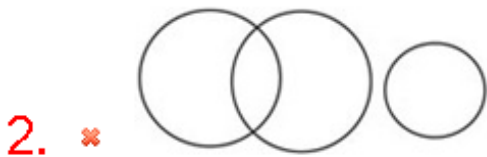

1. ✖ 

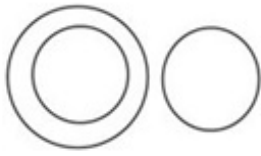


Question Number : 30 Question Id : 54592721038 Question Type : MCQ Option Shuffling : Yes
Correct Marks : 1 Wrong Marks : 0.25

निम्नलिखित में से कौन सा चित्र प्लैटिनम, आभूषण और सोना के बीच संबंध का प्रतिनिधित्व करता है?

Options :



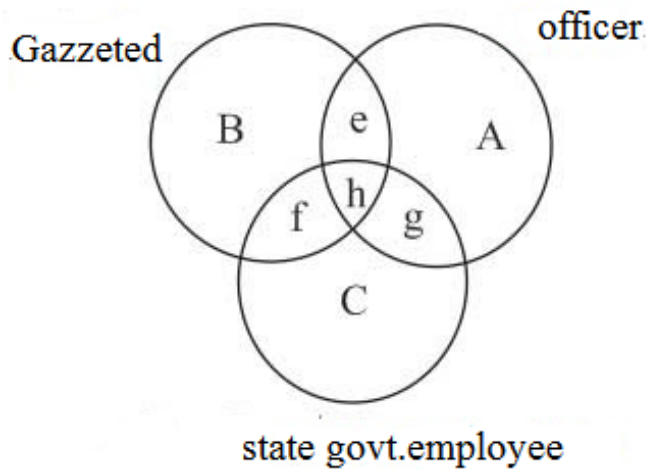


4. ✖

Question Number : 31 Question Id : 54592721039 Question Type : MCQ Option Shuffling : Yes

Correct Marks : 1 Wrong Marks : 0.25

Which one of the following represents Officers who are GAZETTED but not state Government employee?



Options :

1. ✓ e

2. ✖ h

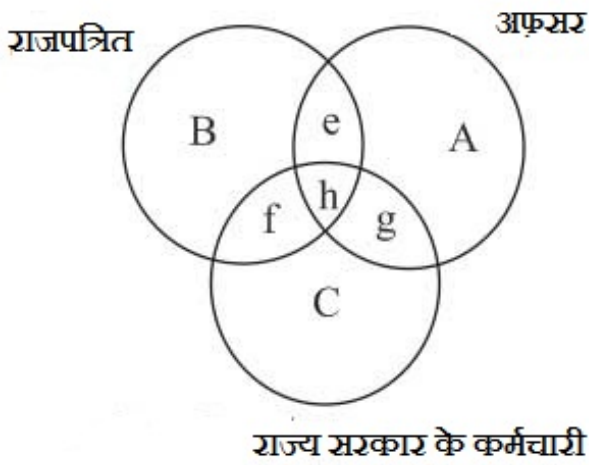
3. ✖ g

4. ✖ f

Question Number : 31 Question Id : 54592721039 Question Type : MCQ Option Shuffling : Yes

Correct Marks : 1 Wrong Marks : 0.25

निम्नलिखित में से कौन सा अफसर का प्रतिनिधित्व करता है जो राजपत्रित हैं लेकिन सरकारी कर्मचारी नहीं हैं?



Options :

1. ✓ e
2. ✗ h
3. ✗ g
4. ✗ f

Question Number : 32 Question Id : 54592721040 Question Type : MCQ Option Shuffling : Yes

Correct Marks : 1 Wrong Marks : 0.25

In following question, a set of two figures forming the problem figure and four answer figures marked as (a), (b), (c) and (d) are given. Select a answer figure which possess the same characteristic.

Problem figures



Options :



Question Number : 32 Question Id : 54592721040 Question Type : MCQ Option Shuffling : Yes
Correct Marks : 1 Wrong Marks : 0.25

निम्नलिखित प्रश्न में, दो चित्र प्रश्न आकृति में और चार उत्तर-आकृति में (a), (b), (c) और (d) के रूप में दिए गए हैं। उस उत्तर आकृति का चयन करें जिसमें समान विशेषता हो।

प्रश्न आकृति



Options :






Question Number : 33 Question Id : 54592721041 Question Type : MCQ Option Shuffling : Yes
Correct Marks : 1 Wrong Marks : 0.25

The second figure in the first unit of the problem figures bears a certain relationship to the first figure. Select that figure from the set of answer figures which would come in the place of question mark (?) and bear the same relation.

Problem Figures



Options :

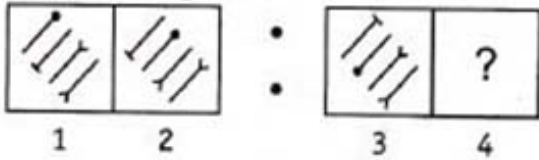




Question Number : 33 Question Id : 54592721041 Question Type : MCQ Option Shuffling : Yes
Correct Marks : 1 Wrong Marks : 0.25

प्रश्न आकृति के पहले सेट की दूसरी आकृति, पहली आकृति से एक निश्चित सम्बन्ध रखती है। आपको उत्तर आकृति के सेट से उस आकृति का चयन करना होगा जो प्रश्न चिह्न (?) के स्थान पर आएगा और वैसा ही निश्चित संबंध दिखाएगा।

प्रश्न आकृति



Options :



4. ✓

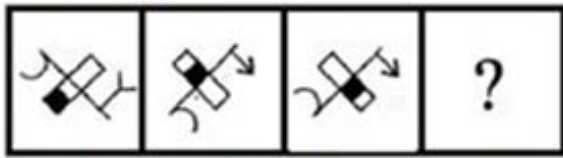


Question Number : 34 Question Id : 54592721042 Question Type : MCQ Option Shuffling : Yes

Correct Marks : 1 Wrong Marks : 0.25

Choose an appropriate figure from the four numbered figures for the place of the questions mark (?).

Problem figure



(A)

(B)

(C)

(D)

Options :

1. ✖



2. ✖



3. ✖



4. ✓

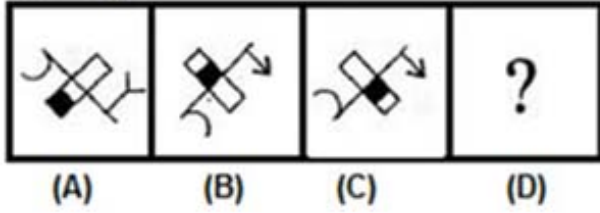


Question Number : 34 Question Id : 54592721042 Question Type : MCQ Option Shuffling : Yes

Correct Marks : 1 Wrong Marks : 0.25

प्रश्न चिह्न (?) के स्थान पर उत्तर आकृति के रूप में एक उचित आकृति चुनें।

प्रश्न आकृति



Options :



1. ✘



2. ✘



3. ✘



4. ✔

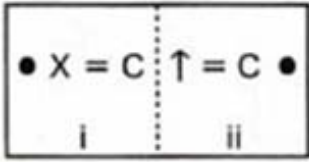
Question Number : 35 Question Id : 54592721043 Question Type : MCQ Option Shuffling : Yes

Correct Marks : 1 Wrong Marks : 0.25

In the following questions, element (ii) is related to element (i) in a particular way. Find out the pair of figures in which the elements are not related to each other.

Options :

1. ✘



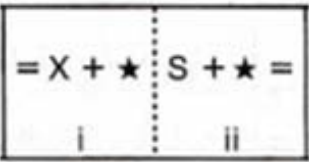
2. ✘



3. ✔



4. ✘



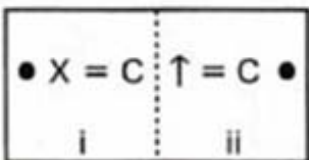
Question Number : 35 Question Id : 54592721043 Question Type : MCQ Option Shuffling : Yes

Correct Marks : 1 Wrong Marks : 0.25

निम्नलिखित प्रश्नों में, आकृति के चारो भाग में तत्व (ii) तत्व (i) से एक निश्चित प्रकार से संबंधित है। उन आकृति जोड़ो का पता लगाएं जिनमे तत्व एक दूसरे से संबंधित नहीं है।

Options :

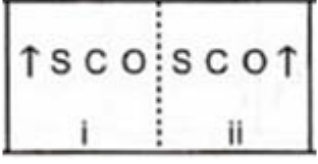
1. ✘



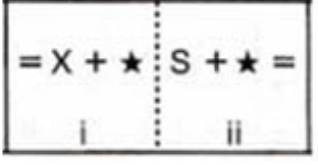
2. ✘



3. ✔



4. ✘



Question Number : 36 Question Id : 54592721044 Question Type : MCQ Option Shuffling : Yes
 Correct Marks : 1 Wrong Marks : 0.25

Choose the correct water image from the given alternatives.

Problem Figures



Options :

1. ✔



2. ✘



3. ✘



4. ✘ 

Question Number : 36 Question Id : 54592721044 Question Type : MCQ Option Shuffling : Yes
Correct Marks : 1 Wrong Marks : 0.25

दिए गए विकल्पों में से आकृति की सही पानी की छवि आकृति ज्ञात कीजिए।

प्रश्न आकृति



Options :

1. ✔ 

2. ✘ 

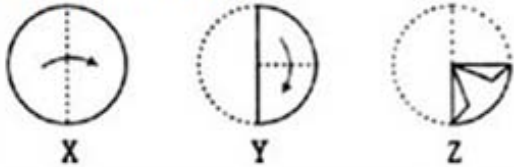
3. ✘ 

4. ✘ 

Question Number : 37 Question Id : 54592721045 Question Type : MCQ Option Shuffling : Yes
Correct Marks : 1 Wrong Marks : 0.25

A piece of paper is folded in the manner shown in the question figure(s). Select the figure out of the unfolded pattern after the punches (cut).

Question Figure:



Options :



एक कागज के टुकड़े को प्रश्न आकृति में दर्शाए गए तरीके से मोड़ा गया है। कट के बाद प्राप्त पैटर्न को दर्शाने वाले उत्तर विकल्पों में से आकृति का चयन करें।

प्रश्न आकृति



Options :



Question Number : 38 Question Id : 54592721046 Question Type : MCQ Option Shuffling : Yes
 Correct Marks : 1 Wrong Marks : 0.25

Find out which of the figure (a), (b), (c), (d) can be formed from the pieces given in fig. (X).

Question

Figure



Options :



Question Number : 38 Question Id : 54592721046 Question Type : MCQ Option Shuffling : Yes

Correct Marks : 1 Wrong Marks : 0.25

(a), (b), (c), (d) में से कौन सी आकृति, आकृति (X) से बनायीं जा सकती हैं?

प्रश्न आकृति

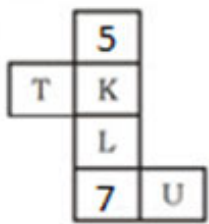


Options :



Question Number : 39 Question Id : 54592721047 Question Type : MCQ Option Shuffling : Yes
Correct Marks : 1 Wrong Marks : 0.25

In the following question an unfolded dice is given. From the given alternatives which of the following will be opposite to 5?



Options :

1. ✗ U

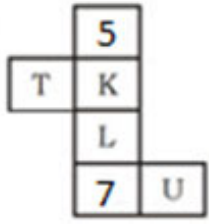
2. ✗ T

3. ✓ L

4. ✗ K

Question Number : 39 Question Id : 54592721047 Question Type : MCQ Option Shuffling : Yes
Correct Marks : 1 Wrong Marks : 0.25

नीचे दिए गए प्रश्न में, एक खुला पासा दिया गया है। विकल्पों से देखकर ज्ञात कीजिए कि कौन सा 5 के विपरीत होगा?



Options :

1. ✖ U
2. ✖ T
3. ✔ L
4. ✖ K

Question Number : 40 Question Id : 54592721048 Question Type : MCQ Option Shuffling : Yes

Correct Marks : 1 Wrong Marks : 0.25

A cube of 25 cm side is divided into 125 smaller cubes of equal volume. Find the side of smaller cubes.

Options :

1. ✖ 2 cm
2. ✖ 3 cm
3. ✔ 5 cm
4. ✖ 6 cm

Question Number : 40 Question Id : 54592721048 Question Type : MCQ Option Shuffling : Yes

Correct Marks : 1 Wrong Marks : 0.25

25 सेमी की एक घन को समान आयतन के 125 छोटे घन में विभाजित किया जाता है। छोटे घन की भुजाएं ज्ञात कीजिए।

Options :

1. ✖ 2 सेमी
2. ✖ 3 सेमी

3. ✓ 5 सेमी

4. ✗ 6 सेमी

General Awareness1

Group Number :	3
Group Id :	5459271043
Group Maximum Duration :	0
Group Minimum Duration :	0
Show Attended Group? :	No
Edit Attended Group? :	No
Break time:	0
Group Marks:	20
Is this Group for Examiner?:	No
Revisit allowed for group Instructions? :	Yes
Maximum Instruction Time:	0
Minimum Instruction Time:	0

General Awareness1

Section Id :	5459271043
Section Number :	1
Section type :	Online
Mandatory or Optional:	Mandatory
Number of Questions:	20
Number of Questions to be attempted:	20
Section Marks:	20

Sub-Section Number:	1
Sub-Section Id:	5459271251
Question Shuffling Allowed :	Yes

Question Number : 41 Question Id : 54592721049 Question Type : MCQ Option Shuffling : Yes
Correct Marks : 1 Wrong Marks : 0.25

Which Indian classical dance can the Odhra Magadha considered as the precursor of?

Options :

1. ✗ Mohiniyattam

2. ✓ Odissi

3. ✗ Kathakali

4. * Kathak

Question Number : 41 Question Id : 54592721049 Question Type : MCQ Option Shuffling : Yes
Correct Marks : 1 Wrong Marks : 0.25

उधरा मगध शैली को किस भारतीय शास्त्रीय नृत्य के अग्रदूत रूप में पहचाना जा सकता है?

Options :

1. * मोहिनीअट्टम
2. ✓ ओडिसी
3. * कथकली
4. * कथक

Question Number : 42 Question Id : 54592721050 Question Type : MCQ Option Shuffling : Yes
Correct Marks : 1 Wrong Marks : 0.25

A monument was built by the British at the Apollo Bunder in Mumbai and was designed by the British architect, George Wittet. To commemorate whose visit was this monument built?

Options :

1. * Prince Edward of Wales
2. ✓ King George V
3. * Prince Phillip I
4. * King Edward III

Question Number : 42 Question Id : 54592721050 Question Type : MCQ Option Shuffling : Yes
Correct Marks : 1 Wrong Marks : 0.25

मुंबई में अपोलो बन्दर में अंग्रेजों द्वारा एक स्मारक बनाया गया था और इसे ब्रिटिश वास्तुकार, जॉर्ज विटेट द्वारा डिजाइन किया गया था। यह स्मारक किसकी यात्रा को अभिनन्दन करने के लिए बनाया गया था?

Options :

1. ✖ वेल्स के प्रिंस एडवर्ड

2. ✔ किंग जॉर्ज V

3. ✖ प्रिंस फिलिप I

4. ✖ किंग एडवर्ड III

Question Number : 43 Question Id : 54592721051 Question Type : MCQ Option Shuffling : Yes
Correct Marks : 1 Wrong Marks : 0.25

Lotia is the regional music of:

Options :

1. ✖ Assam

2. ✖ Punjab

3. ✖ Tamil Nadu

4. ✔ Rajasthan

Question Number : 43 Question Id : 54592721051 Question Type : MCQ Option Shuffling : Yes
Correct Marks : 1 Wrong Marks : 0.25

लोटिया _____ राज्य का क्षेत्रीय संगीत है।

Options :

1. ✖ असम

2. ✖ पंजाब

3. ✖ तमिल नाडू

4. ✔ राजस्थान

Question Number : 44 Question Id : 54592721052 Question Type : MCQ Option Shuffling : Yes
Correct Marks : 1 Wrong Marks : 0.25

Which of the following festivals is not one of the major festivals in Maharashtra?

Options :

1. ✖ Marabats and Badgya

2. ✖ Gudi Padwa

3. ✖ Ganesha Festival

4. ✔ Bihu

Question Number : 44 Question Id : 54592721052 Question Type : MCQ Option Shuffling : Yes

Correct Marks : 1 Wrong Marks : 0.25

निम्नलिखित त्योहारों में से कौन सा त्योहार महाराष्ट्र के प्रसिद्ध त्योहारों में से एक नहीं है?

Options :

1. ✖ मारबत और बडम्या
2. ✖ गुडी पडवा
3. ✖ गणेश महोत्सव
4. ✔ बिहू

Question Number : 45 Question Id : 54592721053 Question Type : MCQ Option Shuffling : Yes

Correct Marks : 1 Wrong Marks : 0.25

When we account for the annual income or the annual production of a factory we are actually calculating:

Options :

1. ✖ Stocks of the factory
2. ✔ Flows of the factory
3. ✖ Gross investment of the factory
4. ✖ Net investment of the factory

Question Number : 45 Question Id : 54592721053 Question Type : MCQ Option Shuffling : Yes

Correct Marks : 1 Wrong Marks : 0.25

जब हम किसी कारखाने की वार्षिक आय या वार्षिक उत्पादन का लेखांकन करते हैं तो हम वास्तव में _____ की गणना करते हैं:

Options :

1. ✖ कारखाने के स्टॉक
2. ✔ कारखाने के प्रवाह

3. ✖ कारखाने के सकल निवेश

4. ✖ कारखाने के निवल निवेश

Question Number : 46 Question Id : 54592721054 Question Type : MCQ Option Shuffling : Yes

Correct Marks : 1 Wrong Marks : 0.25

In which year did India get its Central Bank?

Options :

1. ✖ 1931

2. ✖ 1933

3. ✔ 1935

4. ✖ 1937

Question Number : 46 Question Id : 54592721054 Question Type : MCQ Option Shuffling : Yes

Correct Marks : 1 Wrong Marks : 0.25

भारत को अपना केंद्रीय बैंक किस वर्ष मिला?

Options :

1. ✖ 1931

2. ✖ 1933

3. ✔ 1935

4. ✖ 1937

Question Number : 47 Question Id : 54592721055 Question Type : MCQ Option Shuffling : Yes

Correct Marks : 1 Wrong Marks : 0.25

Which of the following statements about MSP or Minimum Support Price is incorrect?

Options :

1. ✔ The MSP is decided by the FCI or Food Corporation of India.

2. ✖ Freezing of MSP for a few years should be considered by the deciding authority.

3. * Rising MSP's have raised the maintenance cost of procuring foodgrains.

4. * The MSPs are declared every year.

Question Number : 47 Question Id : 54592721055 Question Type : MCQ Option Shuffling : Yes

Correct Marks : 1 Wrong Marks : 0.25

एमएसपी या न्यूनतम समर्थित कीमत के बारे में निम्नलिखित में से कौन सा कथन गलत है?

Options :

1. ✓ एमएसपी का निर्णय एफसीआई या भारतीय खाद्य निगम द्वारा लिया जाता है।

2. * निर्णायक प्राधिकारी को न्यूनतम समर्थित कीमत को कुछ वर्षों के लिए स्थिर रखने के विषय पर गंभीरता से विचार करना चाहिए।

3. * न्यूनतम समर्थित कीमतों के बढ़ने से सरकार की खाद्यान्नों की वसूली अनुरक्षण लागत बढ़ गई है।

4. * एमएसपी हर साल घोषित किए जाते हैं।

Question Number : 48 Question Id : 54592721056 Question Type : MCQ Option Shuffling : Yes

Correct Marks : 1 Wrong Marks : 0.25

Which of the following statements is incorrect about the Parallax method?

Options :

1. ✓ This method can be used to measure all kinds of distances – large, small, medium and micro.

2. * To measure the distance of a far away planet by this method, we observe it from two different positions (observatories).

3. * The distance between the two points of observation is called the basis.

4. * Parallax angle will always be very small while calculating very far off objects.

Question Number : 48 Question Id : 54592721056 Question Type : MCQ Option Shuffling : Yes
Correct Marks : 1 Wrong Marks : 0.25

लंबन विधि के बारे में निम्नलिखित में से कौन सा कथन गलत है?

Options :

1. ✓ इस विधि का उपयोग सभी प्रकार की दूरियों - बड़ी, छोटी, मध्यम और सूक्ष्म, को मापने के लिए किया जा सकता है।
2. * इस विधि द्वारा किसी दूरस्थ ग्रह की दूरी मापने के लिए, हम इसे दो विभिन्न स्थितियों (वेधशालाओं) से देखते हैं।
3. * दो प्रेक्षण बिंदुओं के बीच की दूरी को आधारक कहा जाता है।
4. * दूरस्थ वस्तुओं की गणना करते समय लंबन कोण हमेशा बहुत छोटा होगा।

Question Number : 49 Question Id : 54592721057 Question Type : MCQ Option Shuffling : Yes
Correct Marks : 1 Wrong Marks : 0.25

Which of the following types of cell is present in the human gastric glands?

Options :

1. * Only mucus neck cells
2. * Only mucus neck cells and peptic or chief cells
3. * Only peptic or chief cells and parietal or oxyntic cells
4. ✓ Mucus neck cells, peptic or chief cells and parietal or oxyntic cells

Question Number : 49 Question Id : 54592721057 Question Type : MCQ Option Shuffling : Yes
Correct Marks : 1 Wrong Marks : 0.25

निम्नलिखित में से किस प्रकार की कोशिका मानव जठर ग्रंथियों में मौजूद होती है?

Options :

1. * केवल श्लेषमा ग्रीवा कोशिकाएं
2. * केवल श्लेषमा ग्रीवा कोशिकाएं और पाचक (पेप्टिक) या मुख्य कोशिकाएं
3. * केवल पाचक (पेप्टिक) या मुख्य कोशिकाएं और भित्तीय या ऑक्सिडेंटिक कोशिकाएं
4. ✓ श्लेषमा ग्रीवा कोशिकाएं, पाचक (पेप्टिक) या मुख्य कोशिकाएं और भित्तीय या ऑक्सिडेंटिक कोशिकाएं

Question Number : 50 Question Id : 54592721058 Question Type : MCQ Option Shuffling : Yes
Correct Marks : 1 Wrong Marks : 0.25

Through which of the following activities does an organism maintain homeostasis by Regulation processes?

Options :

1. ✓ Sweating and shivering
2. * Changing body temperature with ambient nature
3. * Temporarily moving away from stressful habitat
4. * Formation of thick walled spores to survive unfavourable conditions

Question Number : 50 Question Id : 54592721058 Question Type : MCQ Option Shuffling : Yes
Correct Marks : 1 Wrong Marks : 0.25

निम्नलिखित में से किस गतिविधि के माध्यम से एक जीव नियामक प्रक्रियाओं द्वारा होमियोस्टैसिस/समस्थापन को बनाए रखता है?

Options :

1. ✓ पसीने और कंपकंपी के द्वारा
2. * शरीर का तापमान परिवेशी तापमान के अनुसार बदलकर
3. * दबावपूर्ण आवास से अस्थायी रूप से अधिक अनुकूल क्षेत्र में जा कर

4. * प्रतिकूल परिस्थितियों में जीवित बचे रहने के लिए मोटी भित्ति वाले बीजाणु बनके

Question Number : 51 Question Id : 54592721059 Question Type : MCQ Option Shuffling : Yes
Correct Marks : 1 Wrong Marks : 0.25

This disease is caused by a pathogenic bacterium and affects the intestines. It can be confirmed by Widal Test. Identify the disease.

Options :

1. * Pneumonia
2. * Cholera
3. ✓ Typhoid
4. * Malaria

Question Number : 51 Question Id : 54592721059 Question Type : MCQ Option Shuffling : Yes
Correct Marks : 1 Wrong Marks : 0.25

यह बीमारी एक रोगजनक जीवाणु के कारण होती है और आंतों को प्रभावित करती है। इस की पुष्टि विडाल परिक्षण द्वारा की जा सकती है। बीमारी को पहचानें।

Options :

1. * न्युमोनिया
2. * हैजा
3. ✓ आंत्र ज्वर (टाइफाइड)
4. * मलेरिया

Question Number : 52 Question Id : 54592721060 Question Type : MCQ Option Shuffling : Yes
Correct Marks : 1 Wrong Marks : 0.25

(i) _____ will help you to (ii) _____ waste products.

Options :

1. * (i) Blue and Green bins, (ii) reduce
2. ✓ (i) Composting, (ii) reduce

3. * (i) Rechargeable batteries, (ii) segregate

4. * (i) Kabariwalas, (ii) decompose

Question Number : 52 Question Id : 54592721060 Question Type : MCQ Option Shuffling : Yes

Correct Marks : 1 Wrong Marks : 0.25

(i) _____ आपको अपशिष्ट उत्पादों को (ii) _____ में मदद करेगा।

Options :

1. * (i) नीले और हरे डिब्बे, (ii) कम करने

2. ✓ (i) कम्पोस्ट, (ii) कम करने

3. * (i) रिचार्जबल बैटरी, (ii) अलग अलग करने

4. * (i) कबारीवाले, (ii) अपघटन

Question Number : 53 Question Id : 54592721061 Question Type : MCQ Option Shuffling : Yes

Correct Marks : 1 Wrong Marks : 0.25

Consider the following steps of Wastewater Treatment Plant (WWTP) – i. Impure water goes to grit and sand removal tank, ii. Impure water is allowed to settle in a large tank, iii.

Impure water is passed through bar screens - Using the codes given below, arrange the above steps sequentially.

Options :

1. * ii, i, iii

2. * iii, ii, i

3. * i, ii, iii

4. ✓ iii, i, ii

Question Number : 53 Question Id : 54592721061 Question Type : MCQ Option Shuffling : Yes

Correct Marks : 1 Wrong Marks : 0.25

अपशिष्ट जल उपचार संयंत्र (डब्ल्यूडब्ल्यूटीपी) के निम्नलिखित चरणों पर विचार करें -i. अपशिष्ट जल को ग्रिट और बालू अलग करने की टंकी में ले जाया जाता है ii. अपशिष्ट जल को एक बड़ी टंकी में ले जा कर स्थिर अवस्था में रखा जाता है iii. अपशिष्ट जल को शलाका छन्ने (बार स्क्रीन)से गुजारा जाता है। - नीचे दिए गए कोड का उपयोग करते हुए, उपरोक्त चरणों को क्रमिक रूप से व्यवस्थित करें।

Options :

1. * ii, i, iii
2. * iii, ii, i
3. * i, ii, iii
4. ✓ iii, i, ii

Question Number : 54 Question Id : 54592721062 Question Type : MCQ Option Shuffling : Yes
Correct Marks : 1 Wrong Marks : 0.25

Which of the following nutrients keep our skin and eyes healthy?

Options :

1. * Fats
2. * Carbohydrates
3. * Proteins
4. ✓ Vitamin A

Question Number : 54 Question Id : 54592721062 Question Type : MCQ Option Shuffling : Yes
Correct Marks : 1 Wrong Marks : 0.25

निम्नलिखित में से कौन सा पोषक तत्व हमारी त्वचा और आँखों को स्वस्थ रखता है?

Options :

1. * वसा
2. * कार्बोहाइड्रेट

3. ✖ प्रोटीन

4. ✔ विटामिन A

Question Number : 55 Question Id : 54592721063 Question Type : MCQ Option Shuffling : Yes

Correct Marks : 1 Wrong Marks : 0.25

Which of the following is an example of a green algae?

Options :

1. ✖ Laminaria

2. ✖ Sargassum

3. ✔ Chlamydomonas

4. ✖ Fucus

Question Number : 55 Question Id : 54592721063 Question Type : MCQ Option Shuffling : Yes

Correct Marks : 1 Wrong Marks : 0.25

निम्नलिखित में से कौनसा हरित शैवाल का एक उदाहरण है?

Options :

1. ✖ लैमिनेरिया

2. ✖ सरगासम

3. ✔ क्लैमाइडोमोनास

4. ✖ फ्युकस

Question Number : 56 Question Id : 54592721064 Question Type : MCQ Option Shuffling : Yes

Correct Marks : 1 Wrong Marks : 0.25

Which of the following cities is not a capital of India's neighbouring countries?

Options :

1. ✖ Thimpu

2. ✖ Kathmandu

3. ✔ Lahore

4. ✖ Naypyitaw

Question Number : 56 Question Id : 54592721064 Question Type : MCQ Option Shuffling : Yes
Correct Marks : 1 Wrong Marks : 0.25

निम्नलिखित में से कौनसा शहर भारत के पड़ोसी देशों की राजधानी नहीं है?

Options :

1. * थिम्पू
2. * काठमांडू
3. ✓ लाहौर
4. * नाएण्पीडॉ

Question Number : 57 Question Id : 54592721065 Question Type : MCQ Option Shuffling : Yes
Correct Marks : 1 Wrong Marks : 0.25

The Census 2011 was the _____ edition of Census in India.

Options :

1. * 13th
2. * 14th
3. ✓ 15th
4. * 16th

Question Number : 57 Question Id : 54592721065 Question Type : MCQ Option Shuffling : Yes
Correct Marks : 1 Wrong Marks : 0.25

जनगणना 2011 भारत में जनगणना का _____ संस्करण था।

Options :

1. * 13 वां
2. * 14 वां
3. ✓ 15 वां
4. * 16 वां

Question Number : 58 Question Id : 54592721066 Question Type : MCQ Option Shuffling : Yes
Correct Marks : 1 Wrong Marks : 0.25

Which of the following pairs are Kharif crops?

Options :

1. ✓ Rice and Cotton
2. ✗ Cotton and Wheat
3. ✗ Wheat and Gram
4. ✗ Gram and Rice

Question Number : 58 Question Id : 54592721066 Question Type : MCQ Option Shuffling : Yes
Correct Marks : 1 Wrong Marks : 0.25

निम्नलिखित में से कौन सी जोड़ी खरीफ फसलें हैं?

Options :

1. ✓ चावल और कपास
2. ✗ कपास और गेहूं
3. ✗ गेहूं और चना
4. ✗ चना और चावल

Question Number : 59 Question Id : 54592721067 Question Type : MCQ Option Shuffling : Yes
Correct Marks : 1 Wrong Marks : 0.25

These soils develop in areas with high temperature and high rainfall. These are the result of intense leaching due to tropical rains. Humus content of the soil is removed fast by bacteria that thrives well in high temperature. These soils are poor in organic matter, nitrogen, phosphate and calcium, while iron oxide and potash are in excess. Hence, these are not suitable for cultivation. Which type of soil is this?

Options :

1. ✓ Laterite
2. ✗ Alluvial
3. ✗ Black
4. ✗ Red and yellow

Question Number : 59 Question Id : 54592721067 Question Type : MCQ Option Shuffling : Yes

Correct Marks : 1 Wrong Marks : 0.25

यह मृदाएँ उच्च तापमान और भारी वर्षा के क्षेत्रों में विकसित होती हैं। ये मृदाएँ उष्ण कटिबंधीय वर्षा के कारण हुए तीव्र निक्षालन का परिणाम हैं। वर्षा के साथ चूना और सिलिका तो निक्षालित हो जाते हैं तथा लोहे के ऑक्साइड और अल्यूमीनियम के यौगिक से भरपूर मृदाएँ शेष रह जाती हैं। उच्च तापमानों में आसानी से पनपने वाले जीवाणु ह्यूमस की मात्रा को तेजी से नष्ट कर देते हैं। इन मृदाओं में जैव पदार्थ, नाइट्रोजन, फॉस्फेट और कैल्शियम की कमी होती है तथा लौह-ऑक्साइड और पोटैश की अधिकता होती है। परिणामस्वरूप यह मृदाएँ कृषि के लिए पर्याप्त उपजाऊ नहीं हैं। यह किस प्रकार की मृदा है?

Options :

1. ✓ लैटेराइट
2. * जलोढ़ कछारी
3. * काली
4. * लाल और पीली

Question Number : 60 Question Id : 54592721068 Question Type : MCQ Option Shuffling : Yes

Correct Marks : 1 Wrong Marks : 0.25

The approximate length of the Great Himalayan range, also known as the central axial range, is (i) _____ km from east to west, and their width varies between (ii) _____ km from north to south.

Options :

1. * (i) 6000km and (ii) 400 - 600km
2. ✓ (i) 2,500km and (ii) 160 - 400km
3. * (i) 4000km and (ii) 300km
4. * (i) 1,500km and (ii) 200km

Question Number : 60 Question Id : 54592721068 Question Type : MCQ Option Shuffling : Yes

Correct Marks : 1 Wrong Marks : 0.25

बृहत हिमालय शृंखला, जिसे केंद्रीय अक्षीय श्रेणी भी कहा जाता है, की पूर्व-पश्चिम लंबाई लगभग (i) _____ किलोमीटर तथा उत्तर से दक्षिण इसकी चौड़ाई (ii) _____ किलोमीटर है।

Options :

1. * (i) 6000 किमी और (ii) 400 - 600 किमी
2. ✓ (i) 2,500 किमी और (ii) 160 - 400 किमी
3. * (i) 4000 किमी और (ii) 300 किमी
4. * (i) 1,500 किमी और (ii) 200 किमी

General Awareness2

Group Number :	4
Group Id :	5459271044
Group Maximum Duration :	0
Group Minimum Duration :	0
Show Attended Group? :	No
Edit Attended Group? :	No
Break time:	0
Group Marks:	20
Is this Group for Examiner? :	No
Revisit allowed for group Instructions? :	Yes
Maximum Instruction Time:	0
Minimum Instruction Time:	0

General Awareness2

Section Id :	5459271044
Section Number :	1
Section type :	Online
Mandatory or Optional:	Mandatory
Number of Questions:	20
Number of Questions to be attempted:	20
Section Marks:	20

Sub-Section Number:	1
Sub-Section Id:	5459271252
Question Shuffling Allowed :	Yes

Question Number : 61 Question Id : 54592721069 Question Type : MCQ Option Shuffling : Yes
Correct Marks : 1 Wrong Marks : 0.25

Which of the following factors does not affect the ocean salinity directly?

Options :

1. ✖ Evaporation and precipitation
2. ✖ Fresh water flow from rivers
3. ✔ Coriolis Force
4. ✖ Winds

Question Number : 61 Question Id : 54592721069 Question Type : MCQ Option Shuffling : Yes
Correct Marks : 1 Wrong Marks : 0.25

निम्नलिखित में से कौन सा कारक प्रत्यक्ष रूप से समुद्र की लवणता को प्रभावित नहीं करता है?

Options :

1. ✖ वाष्पीकरण एवं वर्षण
2. ✖ नदियों से ताज़े पानी का बहाव
3. ✔ कॉरिओलिस बल
4. ✖ हवा

Question Number : 62 Question Id : 54592721070 Question Type : MCQ Option Shuffling : Yes
Correct Marks : 1 Wrong Marks : 0.25

Choose the incorrect statement with regards to the Indus Valley Civilization:

Options :

1. ✖ The longest inscription in the Indus Valley era has about 26 symbols
2. ✖ The Indus Valley people used weights both in binary and decimal systems
3. ✖ The Indus Valley seals conveyed the identity of the sender and also if the bag with the sealing was intact

4. ✓ Beads were made of carnelian which were pink coloured stones obtained by firing the yellowish raw material

Question Number : 62 Question Id : 54592721070 Question Type : MCQ Option Shuffling : Yes
Correct Marks : 1 Wrong Marks : 0.25

सिंधु घाटी सभ्यता के संबंध में गलत कथन चुनें:

Options :

1. * सिन्धु घाटी सभ्यता के सबसे लम्बे अभिलेख में लगभग 26 चिह्न हैं।
2. * सिन्धु घाटी सभ्यता में बाट के मानदंड द्विआधारी एवं दशमलव प्रणाली दोनों का अनुसरण करते थे।
3. * सिन्धु घाटी सभ्यता के मुद्रांकन से प्रेषक की पहचान का पता चलता था एवं यह भी पता चलता था कि जिस थैले पर मुद्रांकन था, उससे कोई छेड़-छाड़ नहीं हुई है।
4. ✓ पीले रंग के कच्चे माल को आग में पका कर कार्नीलियन की मनके बनाए जाते थे , जो गुलाबी रंग के पत्थर थे।

Question Number : 63 Question Id : 54592721071 Question Type : MCQ Option Shuffling : Yes
Correct Marks : 1 Wrong Marks : 0.25

Which of the following places of the sixth century BC are presently not situated in India?

Options :

1. ✓ Taxila
2. * Kaushambi
3. * Rajgir
4. * Ujjayini

Question Number : 63 Question Id : 54592721071 Question Type : MCQ Option Shuffling : Yes
Correct Marks : 1 Wrong Marks : 0.25

छठी शताब्दी ईसा पूर्व के निम्नलिखित स्थानों में से कौन सा स्थान वर्तमान में भारत में स्थित नहीं है?

Options :

1. ✓ तक्षशिला
2. ✗ कौशाम्बी
3. ✗ राजगीर
4. ✗ उज्जयिनी

Question Number : 64 Question Id : 54592721072 Question Type : MCQ Option Shuffling : Yes

Correct Marks : 1 Wrong Marks : 0.25

Which of the following was a work not done by the jotedars during the eighteenth century British administration?

Options :

1. ✓ distributing the revenue demand (jama) over villages
2. ✗ controlled local trade as well as moneylending to ryots
3. ✗ revolted against the zamindars many times
4. ✗ exercised direct control over a considerable section of poor villagers

Question Number : 64 Question Id : 54592721072 Question Type : MCQ Option Shuffling : Yes

Correct Marks : 1 Wrong Marks : 0.25

अठारहवीं शताब्दी के ब्रिटिश प्रशासन के दौरान निम्नलिखित में से कौन सा काम जोतदारों द्वारा नहीं किया जाता था?

Options :

1. ✓ गाँवों पर राजस्व सम्बन्धी माँग (जमा) वितरित करने के लिए जिम्मेदार थे
2. ✗ स्थानीय व्यापार और साहूकार के कारोबार पर उनका नियंत्रण था
3. ✗ ज़मींदारों के खिलाफ कई बार विद्रोह किया

4. * गरीब ग्रामवासियों के काफी बड़े वर्ग पर सीधे अपने नियंत्रण रखते थे

Question Number : 65 Question Id : 54592721073 Question Type : MCQ Option Shuffling : Yes
Correct Marks : 1 Wrong Marks : 0.25

Which of the following movements and their respective years are not correctly matched?

Options :

1. * Champaran Satyagraha : 1916-17
2. * Ahmedabad Mill Strike Satyagraha - 1918
3. * Rowlatt Satyagraha - 1919
4. ✓ Kheda Satyagraha - 1920

Question Number : 65 Question Id : 54592721073 Question Type : MCQ Option Shuffling : Yes
Correct Marks : 1 Wrong Marks : 0.25

निम्नलिखित में से कौनसा आंदोलन और उनके संबंधित वर्ष का सही मिलान नहीं है?

Options :

1. * चंपारण सत्याग्रह : 1916-17
2. * अहमदाबाद मिल हड़ताल सत्याग्रह - 1918
3. * रौलट सत्याग्रह - 1919
4. ✓ खेड़ा सत्याग्रह - 1920

Question Number : 66 Question Id : 54592721074 Question Type : MCQ Option Shuffling : Yes
Correct Marks : 1 Wrong Marks : 0.25

“What if I and all the eminent leaders in Gujarat and in the rest of the country are arrested? This movement is based on the faith that when a whole nation is roused and on the march no leader is necessary.” Who said this and which movement did this quote precede?

Options :

1. * Sardar Vallabhbhai Patel, Civil Disobedience Movement
2. ✓ Mahatma Gandhi, Dandi March
3. * Sardar Vallabhbhai Patel, Non-Cooperation Movement
4. * Mahatma Gandhi, Civil Disobedience Movement

Question Number : 66 Question Id : 54592721074 Question Type : MCQ Option Shuffling : Yes
Correct Marks : 1 Wrong Marks : 0.25

“यदि मुझे और गुजरात व देश भर के सारे मुख्य नेताओं को गिरफ्तार कर लिया जाता है तो क्या होगा? यह आंदोलन इस विश्वास पर आधारित है कि जब एक पूरा राष्ट्र उठ खड़ा होता है और आगे बढ़ने लगता है तो उसे नेता की जरूरत नहीं रह जाती”। यह किसने कहा और यह उद्धरण किस आंदोलन से पहले आया था?

Options :

1. * सरदार वल्लभभाई पटेल, सविनय अवज्ञा आंदोलन
2. ✓ महात्मा गांधी, दांडी मार्च
3. * सरदार वल्लभभाई पटेल, असहयोग आंदोलन
4. * महात्मा गांधी, सविनय अवज्ञा आंदोलन

Question Number : 67 Question Id : 54592721075 Question Type : MCQ Option Shuffling : Yes
Correct Marks : 1 Wrong Marks : 0.25

Which chronicles and documents from the Mughal court is the major source for the agrarian history of the sixteenth and early seventeenth century ?

Options :

1. ✓ Ain-I-Akbari
2. * Babur Nama
3. * Kitab-ul-Hind
4. * Humayunama

Question Number : 67 Question Id : 54592721075 Question Type : MCQ Option Shuffling : Yes

Correct Marks : 1 Wrong Marks : 0.25

मुगल दरबार के कौन से ग्रंथ और दस्तावेज सोलहवीं और सत्रहवीं शताब्दी के कृषि इतिहास का प्रमुख स्रोत हैं?

Options :

1. ✓ आइना-ए-अकबरी
2. ✗ बाबर नामा
3. ✗ किताब-उल-हिंद
4. ✗ हुमायूं नामा

Question Number : 68 Question Id : 54592721076 Question Type : MCQ Option Shuffling : Yes

Correct Marks : 1 Wrong Marks : 0.25

Which of the following personalities is not matched with the position they are holding?

Options :

1. ✗ Lotay Tshering - Bhutanese Prime Minister
2. ✗ Sooronbay Jeenbekov - President of Kyrgyzstan
3. ✓ Mauricio Macri - Australian Prime Minister
4. ✗ Moon Jae-in - South Korean President

Question Number : 68 Question Id : 54592721076 Question Type : MCQ Option Shuffling : Yes

Correct Marks : 1 Wrong Marks : 0.25

निम्नलिखित में से कौनसी शख्सियत उनके द्वारा धारण किए गए पद से मेल नहीं खाती?

Options :

1. ✗ लोटे टीशरिंग - भूटानी प्रधान मंत्री
2. ✗ सोरोनबाय जेंबेकोव - किर्गिस्तान के राष्ट्रपति
3. ✓ मौरिसियो मैक्री - ऑस्ट्रेलियाई प्रधान मंत्री
4. ✗ मून जे-इन - दक्षिण कोरियाई राष्ट्रपति

Question Number : 69 Question Id : 54592721077 Question Type : MCQ Option Shuffling : Yes

Correct Marks : 1 Wrong Marks : 0.25

Who is the author of these books - "Why I Am A Hindu" and "An Era of Darkness"?

Options :

1. * Arvind Adiga
2. * Khushwant Singh
3. * Rajdeep Sardesai
4. ✓ Shashi Tharoor

Question Number : 69 Question Id : 54592721077 Question Type : MCQ Option Shuffling : Yes

Correct Marks : 1 Wrong Marks : 0.25

"व्हाई आई एम ए हिन्दू" एवं "एन एरा ऑफ़ डार्कनेस" - इन पुस्तकों के लेखक कौन हैं?

Options :

1. * अरविंद अडिगा
2. * खुशवंत सिंह
3. * राजदीप सरदेसाई
4. ✓ शशि थरूर

Question Number : 70 Question Id : 54592721078 Question Type : MCQ Option Shuffling : Yes

Correct Marks : 1 Wrong Marks : 0.25

This is a multi-country organization that has 10 member states and was formed in the year 1967. Which of the following organizations can it be?

Options :

1. * SAARC
2. ✓ ASEAN
3. * APEC
4. * SCO

Question Number : 70 Question Id : 54592721078 Question Type : MCQ Option Shuffling : Yes

Correct Marks : 1 Wrong Marks : 0.25

यह एक बहु-देशीय संगठन है, जिसमें 10 सदस्य-राष्ट्र हैं और इसका गठन वर्ष 1967 में किया गया था। निम्नलिखित में से यह कौन सा संगठन हो सकता है?

Options :

1. * सार्क (एस.ए.ए.आर.सी.)
2. ✓ आसियान (ए.एस.ई.ए.एन.)
3. * अपेक (ए.पी.ए.सी.)
4. * एस.सी.ओ.

Question Number : 71 Question Id : 54592721079 Question Type : MCQ Option Shuffling : Yes

Correct Marks : 1 Wrong Marks : 0.25

Choose the incorrect statement about the NITI Aayog:

Options :

1. * The NITI Aayog is neither a statutory body nor a constitutional body.
2. * It was formed in the year 2015.
3. ✓ There are 5 ex-officio members in the NITI Aayog.
4. * At the core of NITI Aayog's creation are two hubs – Team India Hub and the Knowledge and Innovation Hub.

Question Number : 71 Question Id : 54592721079 Question Type : MCQ Option Shuffling : Yes

Correct Marks : 1 Wrong Marks : 0.25

नीति आयोग के बारे में गलत कथन चुनें:

Options :

1. * नीति आयोग न तो वैधानिक निकाय है और न ही संवैधानिक निकाय है।
2. * इसका गठन, वर्ष 2015 में किया गया था।
3. ✓ नीति आयोग में 5 पदेन सदस्य हैं।

4. * नीति आयोग के निर्माण के मूल में दो हब हैं - टीम इंडिया हब और नॉलेज एंड इनोवेशन हब।

Question Number : 72 Question Id : 54592721080 Question Type : MCQ Option Shuffling : Yes
Correct Marks : 1 Wrong Marks : 0.25

This brilliant Indian scientist was a plant physiologist as well as a physicist. His books include "Response in the Living and Non-Living" (1902) and "The Nervous Mechanism of Plants" (1926). Identify the person and identify his invention by choosing the correct option.

Options :

1. ✓ Jagdish Chandra Bose, Crescograph
2. * Satyendra Nath Bose, God Particles
3. * Meghnad Saha, Short Radio Waves
4. * C. V. Raman, Raman Effect

Question Number : 72 Question Id : 54592721080 Question Type : MCQ Option Shuffling : Yes
Correct Marks : 1 Wrong Marks : 0.25

यह प्रतिभाशाली भारतीय वैज्ञानिक एक पादप क्रियाविज्ञानी होने के साथ-साथ एक भौतिक विज्ञानी भी थे। उनके द्वारा लिखे गए पुस्तकों में "रिस्पॉस इन द लिविंग और नॉन-लिविंग" (1902) और "द नर्वस मैकेनिज्म ऑफ प्लांट्स" (1926) उपस्थित हैं। सही विकल्प का चयन कर व्यक्ति की पहचान करें एवं उनके आविष्कार की पहचान करें।

Options :

1. ✓ जगदीश चंद्र बोस, क्रेस्कोग्राफ
2. * सत्येंद्र नाथ बोस, गॉड पार्टिकल्स
3. * मेघनाद साहा, लघु रेडियो तरंगें
4. * सी. वी. रमन, रमन प्रभाव

Question Number : 73 Question Id : 54592721081 Question Type : MCQ Option Shuffling : Yes

Correct Marks : 1 Wrong Marks : 0.25

Sahitya Akademi has selected _____ writers for Yuva Puraskar 2019.

Options :

1. ✖ 20
2. ✖ 21
3. ✖ 22
4. ✔ 23

Question Number : 73 Question Id : 54592721081 Question Type : MCQ Option Shuffling : Yes

Correct Marks : 1 Wrong Marks : 0.25

साहित्य अकादमी ने युवा पुरस्कार 2019 के लिए _____ लेखकों का चयन किया है।

Options :

1. ✖ 20
2. ✖ 21
3. ✖ 22
4. ✔ 23

Question Number : 74 Question Id : 54592721082 Question Type : MCQ Option Shuffling : Yes

Correct Marks : 1 Wrong Marks : 0.25

Which of the following comes under Right to Freedom?

Options :

1. ✖ Right to move the courts to issue directions/orders/writs for enforcement of rights
2. ✖ Protection of language, culture of minorities
3. ✖ Prohibition of employment of children in hazardous jobs
4. ✔ Protection of Right to form associations/unions

Question Number : 74 Question Id : 54592721082 Question Type : MCQ Option Shuffling : Yes

Correct Marks : 1 Wrong Marks : 0.25

निम्नलिखित में से कौन सा स्वतंत्रता के अधिकार के तहत आता है?

Options :

1. * मौलिक अधिकारों को लागू करवाने के लिए न्यायालय जाने का अधिकार
2. * अल्पसंख्यको के भाषा और संस्कृति के संरक्षण का अधिकार
3. * जोखिम वाले कामों में बच्चों से मजदूरी कराने पर रोक
4. ✓ संगठित होने का व्यक्तिगत स्वतंत्रता का अधिकार

Question Number : 75 Question Id : 54592721083 Question Type : MCQ Option Shuffling : Yes

Correct Marks : 1 Wrong Marks : 0.25

Which Constitutional Amendment fixed the norm that the total number of Ministers, including the Prime Minister, in the Council of Ministers shall not exceed fifteen per cent of the total number of members of the House of the People?

Options :

1. * 85th Amendment Act
2. * 89th Amendment Act
3. ✓ 91st Amendment Act
4. * 96th Amendment Act

Question Number : 75 Question Id : 54592721083 Question Type : MCQ Option Shuffling : Yes

Correct Marks : 1 Wrong Marks : 0.25

किस संवैधानिक संशोधन ने मानदंड तय किया कि मंत्रिपरिषद में प्रधान मंत्री सहित मंत्रियों की कुल संख्या, लोक सभा के सदस्यों की कुल संख्या से पंद्रह प्रतिशत से अधिक नहीं होगी?

Options :

1. * 85 वां संशोधन अधिनियम
2. * 89 वां संशोधन अधिनियम
3. ✓ 91 वां संशोधन अधिनियम

4. * 96 वां संशोधन अधिनियम

Question Number : 76 Question Id : 54592721084 Question Type : MCQ Option Shuffling : Yes
Correct Marks : 1 Wrong Marks : 0.25

Right to Information Act provides for setting out the practical regime of right to information for citizens to secure access to information under the control of (i) _____. It was passed in (ii) _____.

Options :

1. ✓ (i) Public authorities, (ii) 2005
2. * (i) Private authorities, (ii) 2005
3. * (i) Public authorities, (ii) 2001
4. * (i) Private Authorities, (ii) 2001

Question Number : 76 Question Id : 54592721084 Question Type : MCQ Option Shuffling : Yes
Correct Marks : 1 Wrong Marks : 0.25

(i) _____ के नियंत्रणाधीन सूचना तक पहुंच सुनिश्चित करने के लिए नागरिकों के सूचना के अधिकार की व्यावहारिक शासन पद्धति स्थापित करने के लिए सूचना का अधिकार नियम है। इसे (ii) _____ में पारित किया गया था।

Options :

1. ✓ (i) लोक प्राधिकारी, (ii) 2005
2. * (i) निजी प्राधिकारी, (ii) 2005
3. * (i) लोक प्राधिकारी, (ii) 2001
4. * (i) निजी प्राधिकारी, (ii) 2001

Question Number : 77 Question Id : 54592721085 Question Type : MCQ Option Shuffling : Yes
Correct Marks : 1 Wrong Marks : 0.25

“We must make our political democracy a social democracy as well.” Who had said this line?

Options :

1. * Pandit Jawaharlal Nehru
2. * Dr. Rajendra Prasad
3. ✓ B.R. Ambedkar
4. * Maulana Abul Kalam Azad

Question Number : 77 Question Id : 54592721085 Question Type : MCQ Option Shuffling : Yes
Correct Marks : 1 Wrong Marks : 0.25

"अपने राजनीतिक लोकतंत्र को हमें सामाजिक लोकतंत्र का रूप भी देना चाहिए।" यह पंक्ति किसके द्वारा कही गयी है?

Options :

1. * पंडित जवाहरलाल नेहरू
2. * डॉ राजेंद्र प्रसाद
3. ✓ बी.आर. अम्बेडकर
4. * मौलाना अबुल कलाम आज़ाद

Question Number : 78 Question Id : 54592721086 Question Type : MCQ Option Shuffling : Yes
Correct Marks : 1 Wrong Marks : 0.25

In the 2019 edition of this tournament, Rafael Nadal won the Men's Singles title and Ashleigh Barty won the Women's Singles title. Which tournament is being described?

Options :

1. * US Open
2. * Wimbledon
3. ✓ French Open
4. * Australian Open

Question Number : 78 Question Id : 54592721086 Question Type : MCQ Option Shuffling : Yes
Correct Marks : 1 Wrong Marks : 0.25

इस टूर्नामेंट के 2019 संस्करण में, राफेल नडाल ने पुरुष एकल खिताब जीता और एशले बार्टी ने महिला एकल खिताब जीता। किस टूर्नामेंट का वर्णन किया जा रहा है?

Options :

1. * यूएस ओपन
2. * विंबलडन
3. ✓ फ्रेंच ओपन
4. * ऑस्ट्रेलियन ओपन

Question Number : 79 Question Id : 54592721087 Question Type : MCQ Option Shuffling : Yes

Correct Marks : 1 Wrong Marks : 0.25

Which state topped the rankings in the Khelo India Youth Games 2019?

Options :

1. * Karnataka
2. * Delhi
3. * Haryana
4. ✓ Maharashtra

Question Number : 79 Question Id : 54592721087 Question Type : MCQ Option Shuffling : Yes

Correct Marks : 1 Wrong Marks : 0.25

खेलो इंडिया यूथ गेम्स 2019 में किस राज्य ने रैंकिंग में शीर्ष स्थान प्राप्त किया?

Options :

1. * कर्नाटक
2. * दिल्ली
3. * हरियाणा
4. ✓ महाराष्ट्र

Question Number : 80 Question Id : 54592721088 Question Type : MCQ Option Shuffling : Yes
Correct Marks : 1 Wrong Marks : 0.25

The last edition of a multi-sport event was held in 2018 at the Gold Coast and the next edition will be held in 2022 at Birmingham. Identify which multi-sport events is being talked about?

Options :

1. * Asian Games
2. ✓ Commonwealth Games
3. * World Games
4. * Diamond League

Question Number : 80 Question Id : 54592721088 Question Type : MCQ Option Shuffling : Yes
Correct Marks : 1 Wrong Marks : 0.25

एक बहु-खेल कार्यक्रम का आखरी संस्करण 2018 में गोल्ड कोस्ट में आयोजित किया गया था एवं इसका अगला संस्करण 2022 में बर्मिंघम में आयोजित किया जाएगा। निम्नलिखित में से किस बहु-खेल कार्यक्रम की बात की जा रही है?

Options :

1. * एशियाई खेल
2. ✓ राष्ट्रमंडल खेल
3. * विश्व खेल
4. * डायमंड लीग

Arithmetic Ability1

Group Number :	5
Group Id :	5459271045
Group Maximum Duration :	0
Group Minimum Duration :	0
Show Attended Group? :	No
Edit Attended Group? :	No
Break time:	0

Group Marks:	20
Is this Group for Examiner?:	No
Revisit allowed for group Instructions? :	Yes
Maximum Instruction Time:	0
Minimum Instruction Time:	0

Arithmetic Ability1

Section Id :	5459271045
Section Number :	1
Section type :	Online
Mandatory or Optional:	Mandatory
Number of Questions:	20
Number of Questions to be attempted:	20
Section Marks:	20

Sub-Section Number:	1
Sub-Section Id:	5459271253
Question Shuffling Allowed :	Yes

Question Number : 81 Question Id : 54592721089 Question Type : MCQ Option Shuffling : Yes
Correct Marks : 1 Wrong Marks : 0.25

DIRECTIONS: What should come in place of the question mark (?) in the following question?

$$\frac{(598+178)^2 - (598-178)^2}{598 \times 178} = ?$$

Options :

1. ✖ $\frac{1}{2}$

2. ✔ 4

3. ✖ 5

4. ✖ 8

Question Number : 81 Question Id : 54592721089 Question Type : MCQ Option Shuffling : Yes
Correct Marks : 1 Wrong Marks : 0.25

निर्देश: निम्नलिखित प्रश्न में प्रश्नवाचक चिन्ह (?) के स्थान पर क्या आना चाहिए?

$$\frac{(598+178)^2 - (598-178)^2}{598 \times 178} = ?$$

Options :

1. ✖ $\frac{1}{2}$

2. ✔ 4

3. ✖ 5

4. ✖ 8

Question Number : 82 Question Id : 54592721090 Question Type : MCQ Option Shuffling : Yes
Correct Marks : 1 Wrong Marks : 0.25

DIRECTIONS: What should come in place of the question mark (?) in the following questions?

$$25 \text{ percent of } 84 \times 25 \text{ percent of } 84 = ?$$

Options :

1. ✖ 424

2. ✖ 488

3. ✖ 482

4. ✔ 441

Question Number : 82 Question Id : 54592721090 Question Type : MCQ Option Shuffling : Yes
Correct Marks : 1 Wrong Marks : 0.25

निर्देश: निम्नलिखित प्रश्न में प्रश्नवाचक चिन्ह (?) के स्थान पर क्या आना चाहिए?

25 percent of 84 × 25 percent of 84 = ?

Options :

1. ✖ 424

2. ✖ 488

3. ✖ 482

4. ✔ 441

Question Number : 83 Question Id : 54592721091 Question Type : MCQ Option Shuffling : Yes

Correct Marks : 1 Wrong Marks : 0.25

What should come in place of the question mark (?) in the following question?

$$\frac{15}{2} + \frac{-11}{3} + 6 + \frac{-7}{6} = ?$$

Options :

1. ✖ $\frac{15}{6}$

2. ✖ $\frac{27}{4}$

3. ✖ $\frac{12}{19}$

4. ✔ $\frac{26}{3}$

Question Number : 83 Question Id : 54592721091 Question Type : MCQ Option Shuffling : Yes

Correct Marks : 1 Wrong Marks : 0.25

निम्नलिखित प्रश्न में प्रश्नवाचक चिन्ह (?) के स्थान पर क्या आना चाहिए?

$$\frac{15}{2} + \frac{-11}{3} + 6 + \frac{-7}{6} = ?$$

Options :

1. ✘ $\frac{15}{6}$

2. ✘ $\frac{27}{4}$

3. ✘ $\frac{12}{19}$

4. ✔ $\frac{26}{3}$

Question Number : 84 Question Id : 54592721092 Question Type : MCQ Option Shuffling : Yes

Correct Marks : 1 Wrong Marks : 0.25

Find the largest of the following fractions?

$$\frac{2}{9}, \frac{14}{16}, \frac{23}{21}, \frac{63}{69}, \frac{19}{37}$$

Note: For this question, discrepancy is found in question/answer. So, this question is ignored for all candidates.

Options :

1. $\frac{19}{17}$

2. $\frac{14}{16}$

3. $\frac{23}{21}$

4. $\frac{63}{69}$

Question Number : 84 Question Id : 54592721092 Question Type : MCQ Option Shuffling : Yes
Correct Marks : 1 Wrong Marks : 0.25

निम्नलिखित में से सबसे बड़ा भिन्न ज्ञात कीजिये?

$\frac{2}{9}, \frac{14}{16}, \frac{23}{21}, \frac{63}{69}, \frac{19}{37}$

Note: For this question, discrepancy is found in question/answer. So, this question is ignored for all candidates.

Options :

1. $\frac{19}{17}$

2. $\frac{14}{16}$

3. $\frac{23}{21}$

4. $\frac{63}{69}$

Question Number : 85 Question Id : 54592721093 Question Type : MCQ Option Shuffling : Yes
Correct Marks : 1 Wrong Marks : 0.25

What should come in place of the question mark (?) in the following question?

$$[(16 \div 4) \times 4] \div 4 = ?$$

Options :

1. ✖ 2

2. ✖ 3

3. ✔ 4

4. ✖ 5

Question Number : 85 Question Id : 54592721093 Question Type : MCQ Option Shuffling : Yes

Correct Marks : 1 Wrong Marks : 0.25

निम्नलिखित प्रश्न में प्रश्नवाचक चिन्ह (?) के स्थान पर क्या आना चाहिए?

$$[(16 \div 4) \times 4] \div 4 = ?$$

Options :

1. ✖ 2

2. ✖ 3

3. ✔ 4

4. ✖ 5

Question Number : 86 Question Id : 54592721094 Question Type : MCQ Option Shuffling : Yes

Correct Marks : 1 Wrong Marks : 0.25

What should come in place of the question mark (?) in the following question?

$$16 + \frac{3}{4} \text{ of } [32 - 16 \div 4 \times 6 + \overline{23 - 11} + 3 - 2 \times 6] = ?$$

Options :

1. ✖ $\frac{89}{4}$

2. ✖ $\frac{77}{4}$

3. ✔ $\frac{97}{4}$

4. ✖ $\frac{81}{4}$

Question Number : 86 Question Id : 54592721094 Question Type : MCQ Option Shuffling : Yes

Correct Marks : 1 Wrong Marks : 0.25

निम्नलिखित प्रश्न में प्रश्नवाचक चिन्ह (?) के स्थान पर क्या आना चाहिए?

$$16 + \frac{3}{4} \text{ of } [32 - 16 \div 4 \times 6 + \overline{23 - 11} + 3 - 2 \times 6] = ?$$

Options :

1. ✖ $\frac{89}{4}$

2. ✖ $\frac{77}{4}$

3. ✔ $\frac{97}{4}$

4. ✖ $\frac{81}{4}$

Question Number : 87 Question Id : 54592721095 Question Type : MCQ Option Shuffling : Yes
Correct Marks : 1 Wrong Marks : 0.25

HCF of (63, 84, 147) is:

Options :

1. ✓ 21

2. ✗ 7

3. ✗ 12

4. ✗ 23

Question Number : 87 Question Id : 54592721095 Question Type : MCQ Option Shuffling : Yes
Correct Marks : 1 Wrong Marks : 0.25

(63, 84, 147) का महत्तम समापवर्तक है

Options :

1. ✓ 21

2. ✗ 7

3. ✗ 12

4. ✗ 23

Question Number : 88 Question Id : 54592721096 Question Type : MCQ Option Shuffling : Yes
Correct Marks : 1 Wrong Marks : 0.25

If $A = 1 \times 2 \times 3 \times \dots \times 200$ and $B = 201 \times 202 \times 203 \times 204$, then find the LCM of A and B.

Options :

1. ✗ B

2. ✗ 201 A

3. ✗ AB

4. ✓ A

Question Number : 88 Question Id : 54592721096 Question Type : MCQ Option Shuffling : Yes
Correct Marks : 1 Wrong Marks : 0.25

यदि $A = 1 \times 2 \times 3 \times \dots \times 200$ और $B = 201 \times 202 \times 203 \times 204$, तो A और B का लघुतम समापवर्तक ज्ञात कीजिए।

Options :

1. ✖ B
2. ✖ 201 A
3. ✖ AB
4. ✔ A

Question Number : 89 Question Id : 54592721097 Question Type : MCQ Option Shuffling : Yes
Correct Marks : 1 Wrong Marks : 0.25

When the sum of the digits of a number is subtracted from the number, the result will be always divisible by:

Options :

1. ✖ 6
2. ✔ 9
3. ✖ 111
4. ✖ 5

Question Number : 89 Question Id : 54592721097 Question Type : MCQ Option Shuffling : Yes
Correct Marks : 1 Wrong Marks : 0.25

जब किसी संख्या के अंकों का योग संख्या से घटाया जाता है, तो परिणाम हमेशा _____ से विभाजित होगा।

Options :

1. ✖ 6
2. ✔ 9
3. ✖ 111
4. ✖ 5

Question Number : 90 Question Id : 54592721098 Question Type : MCQ Option Shuffling : Yes
Correct Marks : 1 Wrong Marks : 0.25

The number 111111111111 is divisible by:

Options :

1. ✖ 5 and 11
2. ✖ 9 and 11
3. ✖ 3 and 9
4. ✔ 3 and 11

Question Number : 90 Question Id : 54592721098 Question Type : MCQ Option Shuffling : Yes
Correct Marks : 1 Wrong Marks : 0.25

111111111111 किसके द्वारा विभाजित है:

Options :

1. ✖ 5 और 11
2. ✖ 9 और 11
3. ✖ 3 और 9
4. ✔ 3 और 11

Question Number : 91 Question Id : 54592721099 Question Type : MCQ Option Shuffling : Yes
Correct Marks : 1 Wrong Marks : 0.25

A shopkeeper offers a discount of K percent on a product A and $(K + 15)$ percent on product B. The marked price of A and B is same. If the ratio of the selling price of B to that of A is 13 : 16, then find the discount percentage of product A.

Note: For this question, discrepancy is found in question/answer. So, this question is ignored for all candidates.

Options :

1. 25 percent
2. 22 percent
3. 20 percent
4. 15 percent

Question Number : 91 Question Id : 54592721099 Question Type : MCQ Option Shuffling : Yes
Correct Marks : 1 Wrong Marks : 0.25

एक दुकानदार उत्पाद A पर K प्रतिशत और उत्पाद B पर $(K + 15)$ प्रतिशत की छूट प्रदान करता है। A और B का चिह्नित मूल्य समान है। यदि A और B की बिक्री मूल्य का अनुपात 13: 16 है, तो उत्पाद A का छूट प्रतिशत ज्ञात कीजिए।

Note: For this question, discrepancy is found in question/answer. So, this question is ignored for all candidates.

Options :

1. 25 प्रतिशत
2. 22 प्रतिशत
3. 20 प्रतिशत
4. 15 प्रतिशत

Question Number : 92 Question Id : 54592721100 Question Type : MCQ Option Shuffling : Yes

Correct Marks : 1 Wrong Marks : 0.25

Five times the present age of Rukmani is equal to four times the age of Sukhmani. Five times the age of Mahima six years ago was equal to four times the age of Sukhmani five years ago. If the average of present age of Rukmani, Sukhmani and Mahima is 31 years. Find the age of Rukmani three years ago?

Options :

1. * 35 yr
2. * 28 yr
3. * 22 yr
4. ✓ 25 yr

Question Number : 92 Question Id : 54592721100 Question Type : MCQ Option Shuffling : Yes

Correct Marks : 1 Wrong Marks : 0.25

रुकमणी की वर्तमान आयु का पांच गुना, सुखमनी की आयु के चार गुना के बराबर है। छह साल पहले महिमा की उम्र का पांच गुना, पांच साल पहले सुखमनी की उम्र के चार गुना के बराबर थी। यदि रुकमणी, सुखमनी और महिमा की वर्तमान आयु का औसत 31 वर्ष है। तीन साल पहले रुकमणी की उम्र का पता लगाएं?

Options :

1. ✖ 35 वर्ष
2. ✖ 28 वर्ष
3. ✖ 22 वर्ष
4. ✔ 25 वर्ष

Question Number : 93 Question Id : 54592721101 Question Type : MCQ Option Shuffling : Yes

Correct Marks : 1 Wrong Marks : 0.25

The average salary of all the employees in a company is Rs.10500. The average salary of all the male employees is Rs.15000. The average salary of all the female employees is Rs.8500. If there are 36 male employees in the company. What is the total number of employees in the company?

Options :

1. ✔ 117
2. ✖ 81
3. ✖ 104
4. ✖ 65

Question Number : 93 Question Id : 54592721101 Question Type : MCQ Option Shuffling : Yes

Correct Marks : 1 Wrong Marks : 0.25

एक कंपनी में सभी कर्मचारियों का औसत वेतन रु.10500 है। सभी पुरुष कर्मचारियों का औसत वेतन रु.15,000 है। सभी महिला कर्मचारियों का औसत वेतन रु .8500 है। अगर कंपनी में 36 पुरुष कर्मचारी हैं। कंपनी में कर्मचारियों की कुल संख्या कितनी है?

Options :

1. ✓ 117

2. ✗ 81

3. ✗ 104

4. ✗ 65

Question Number : 94 Question Id : 54592721102 Question Type : MCQ Option Shuffling : Yes

Correct Marks : 1 Wrong Marks : 0.25

A test consists of a total of 100 questions from three sections QA, LR and VA. All questions carry equal marks. QA section contains 35 questions, LR section contains 35 questions and VA section contains 30 questions. A student answered 60 percent from QA section, 40 percent from LR section and 50 percent from VA section correctly. Exactly how many more questions should he have answered correctly to get the pass percentage of 65 percent in the test ?

Options :

1. ✗ 20

2. ✓ 15

3. ✗ 24

4. ✗ 19

Question Number : 94 Question Id : 54592721102 Question Type : MCQ Option Shuffling : Yes

Correct Marks : 1 Wrong Marks : 0.25

एक परीक्षण में तीन खंड QA, LR और VA से कुल 100 प्रश्न होते हैं। सभी प्रश्नों पर समान अंक हैं। QA खंड में 35 प्रश्न, LR खंड 35 प्रश्न और VA खंड में 30 प्रश्न होते हैं। एक छात्र ने QA खंड से 60 प्रतिशत, LR खंड से 40 प्रतिशत और VA खंड से 50 प्रतिशत सही उत्तर दिए। परीक्षा में 65 प्रतिशत उत्तीर्ण प्रतिशत प्राप्त करने के लिए उन्हें कितने और सवालों के जवाब सही देने चाहिए?

Options :

1. ✖ 20
2. ✔ 15
3. ✖ 24
4. ✖ 19

Question Number : 95 Question Id : 54592721103 Question Type : MCQ Option Shuffling : Yes
Correct Marks : 1 Wrong Marks : 0.25

15 kg grapes which contain 90 percent water were kept in sunlight. In presence of sunlight, the content of water reduces to 85 percent due to evaporation. Find the reduced weight of grapes?

Options :

1. ✖ 14 kg
2. ✖ 13 kg
3. ✖ 12 kg
4. ✔ 10 kg

Question Number : 95 Question Id : 54592721103 Question Type : MCQ Option Shuffling : Yes
Correct Marks : 1 Wrong Marks : 0.25

15 कि.ग्रा. अंगूर जिसमें 90 प्रतिशत पानी है, को धूप में रखा गया। धूप की उपस्थिति में वाष्पीकरण के कारण पानी का अंश घटकर 85 प्रतिशत रह गया। इस प्रक्रिया के बाद अंगूर का घटा हुआ भार ज्ञात करें?

Options :

1. ✖ 14 कि.ग्रा.
2. ✖ 13 कि.ग्रा.
3. ✖ 12 कि.ग्रा.
4. ✔ 10 कि.ग्रा.

Question Number : 96 Question Id : 54592721104 Question Type : MCQ Option Shuffling : Yes
Correct Marks : 1 Wrong Marks : 0.25

There are two numbers such that 25% of the first number is equal to the square of the second number. The second number is $4\frac{4}{17}$ % of 850. What is the difference between two numbers ?

Options :

1. ✖ 4096
2. ✖ 6658
3. ✔ 5148
4. ✖ 3642

Question Number : 96 Question Id : 54592721104 Question Type : MCQ Option Shuffling : Yes
Correct Marks : 1 Wrong Marks : 0.25

दो संख्याएँ ऐसी हैं कि पहली संख्या का 25% दूसरी संख्या के वर्ग के बराबर है। दूसरी संख्या 850 के $4\frac{4}{17}$ % के बराबर है। दो संख्याओं के बीच अंतर क्या है?

Options :

1. ✖ 4096
2. ✖ 6658
3. ✔ 5148
4. ✖ 3642

Question Number : 97 Question Id : 54592721105 Question Type : MCQ Option Shuffling : Yes
Correct Marks : 1 Wrong Marks : 0.25

By selling 150 metre of cloth, I gain the selling price of 15 metre. Find the gain percent.

Options :

1. ✖ 9.09 Percent
2. ✔ 11.11 Percent
3. ✖ 10 Percent
4. ✖ 15 Percent

Question Number : 97 Question Id : 54592721105 Question Type : MCQ Option Shuffling : Yes
Correct Marks : 1 Wrong Marks : 0.25

150 मीटर कपड़े बेचने पर मुझे 15 मीटर कपड़ों के विक्रय मूल्य जितना लाभ प्राप्त होता है। लाभ प्रतिशत ज्ञात कीजिए।

Options :

1. ✖ 9.09 प्रतिशत
2. ✔ 11.11 प्रतिशत
3. ✖ 10 प्रतिशत
4. ✖ 15 प्रतिशत

Question Number : 98 Question Id : 54592721106 Question Type : MCQ Option Shuffling : Yes
Correct Marks : 1 Wrong Marks : 0.25

Deepak purchased a certain number of tables, with an expectation that if he sells all of the tables at the marked price, he will get a profit of 35 percent. But during transportation, 12 percent of the tables are completely damaged and gave him no returns, 15 percent are slightly damaged so he sells them at a discount of 20 percent. The remaining are sold at the marked price. What is his overall profit percentage ?

Options :

1. ✓ 14.75 Percent

2. ✗ 15.25 Percent

3. ✗ 16.5 Percent

4. ✗ 12.33 Percent

Question Number : 98 Question Id : 54592721106 Question Type : MCQ Option Shuffling : Yes

Correct Marks : 1 Wrong Marks : 0.25

दीपक ने एक निश्चित संख्या में टेबल खरीदे, इस उम्मीद के साथ कि यदि वह सभी टेबल को चिन्हित कीमत पर बेचता है, तो उसे 35 प्रतिशत का लाभ होगा। लेकिन परिवहन के दौरान, 12 प्रतिशत टेबल पूरी तरह से क्षतिग्रस्त हो जाते हैं और उसे कोई मूल्य नहीं मिलता, 15 प्रतिशत थोड़ा क्षतिग्रस्त होते हैं इसलिए वह उन्हें 20 प्रतिशत की छूट पर बेचता है। शेष चिह्नित मूल्य पर बेचे जाते हैं। उसका समग्र लाभ प्रतिशत क्या है?

Options :

1. ✓ 14.75 प्रतिशत

2. ✗ 15.25 प्रतिशत

3. ✗ 16.5 प्रतिशत

4. ✗ 12.33 प्रतिशत

Question Number : 99 Question Id : 54592721107 Question Type : MCQ Option Shuffling : Yes

Correct Marks : 1 Wrong Marks : 0.25

The cost price of a trouser is $(5/7)$ th of the cost price of a shirt. The shirt is sold at 24 percent profit and the total profit on one trouser and one shirt is 17 percent. If the profit earned on a shirt is Rs.504. What is the selling price of trouser?

Options :

1. ✗ Rs.1450

2. ✗ Rs.1520

3. ✓ Rs.1608

4. ✗ Rs.1716

Question Number : 99 Question Id : 54592721107 Question Type : MCQ Option Shuffling : Yes

Correct Marks : 1 Wrong Marks : 0.25

एक पतलून की लागत मूल्य, एक शर्ट की लागत मूल्य का $(5/7)$ वा है। शर्ट 24 प्रतिशत लाभ पर बेची जाती है और एक पतलून और एक शर्ट पर कुल लाभ 17 प्रतिशत है। यदि एक शर्ट पर अर्जित लाभ 504 रुपये है। पतलून की बिक्री मूल्य क्या है?

Options :

1. ✗ 1450 रुपये

2. ✗ 1520 रुपये

3. ✓ 1608 रुपये

4. ✗ 1716 रुपये

Question Number : 100 Question Id : 54592721108 Question Type : MCQ Option Shuffling : Yes

Correct Marks : 1 Wrong Marks : 0.25

If $(K + 2)$, $(K + 6)$, $(K + 23)$ and $(K + 33)$ are in proportion. Find the value of $(K + 10)$.

Options :

1. ✗ 26

2. ✓ 22

3. ✗ 18

4. ✗ 20

Question Number : 100 Question Id : 54592721108 Question Type : MCQ Option Shuffling : Yes

Correct Marks : 1 Wrong Marks : 0.25

यदि $(K + 2)$, $(K + 6)$, $(K + 23)$ और $(K + 33)$ समानुपात में हैं। $(K + 10)$ का मान ज्ञात कीजिए।

Options :

1. ✖ 26

2. ✔ 22

3. ✖ 18

4. ✖ 20

Arithmetic Ability2

Group Number :	6
Group Id :	5459271046
Group Maximum Duration :	0
Group Minimum Duration :	0
Show Attended Group? :	No
Edit Attended Group? :	No
Break time:	0
Group Marks:	20
Is this Group for Examiner?:	No
Revisit allowed for group Instructions? :	Yes
Maximum Instruction Time:	0
Minimum Instruction Time:	0

Arithmetic Ability2

Section Id :	5459271046
Section Number :	1
Section type :	Online
Mandatory or Optional:	Mandatory
Number of Questions:	20
Number of Questions to be attempted:	20
Section Marks:	20

Sub-Section Number:	1
Sub-Section Id:	5459271254
Question Shuffling Allowed :	Yes

Question Number : 101 Question Id : 54592721109 Question Type : MCQ Option Shuffling : Yes
Correct Marks : 1 Wrong Marks : 0.25

Income of Akhil and Nikhil is in the ratio 6 : 7. The ratio of their expenses is 9 : 11. If both of them save the same amount. Find the ratio of income to expenditure of Nikhil.

Options :

1. ✖ 4 : 3

2. ✖ 5 : 6

3. ✖ 8 : 5

4. ✔ 14 : 11

Question Number : 101 Question Id : 54592721109 Question Type : MCQ Option Shuffling : Yes

Correct Marks : 1 Wrong Marks : 0.25

अखिल और निखिल की आय 6 : 7 के अनुपात में है। उनके खर्च का अनुपात 9 : 11 है। यदि दोनों समान राशि बचाते हैं। निखिल की आय का व्यय से अनुपात ज्ञात कीजिए।

Options :

1. ✖ 4 : 3

2. ✖ 5 : 6

3. ✖ 8 : 5

4. ✔ 14 : 11

Question Number : 102 Question Id : 54592721110 Question Type : MCQ Option Shuffling : Yes

Correct Marks : 1 Wrong Marks : 0.25

A company wants to share profit among managers, supervisors and clerks in the ratio 4 : 3 : 2. There are 8 managers, 12 supervisors and 20 clerks in the company. Each manager got a share of Rs. 25000. Find the sum of the amount received by a supervisor and a clerk.

Options :

1. ✖ Rs. 21000
2. ✖ Rs. 16400
3. ✖ Rs. 19200
4. ✔ Rs. 17500

Question Number : 102 Question Id : 54592721110 Question Type : MCQ Option Shuffling : Yes

Correct Marks : 1 Wrong Marks : 0.25

एक कंपनी 4: 3: 2 के अनुपात में प्रबंधकों, पर्यवेक्षकों और क्लर्कों के बीच लाभ साझा करना चाहती है। कंपनी में 8 प्रबंधक, 12 पर्यवेक्षक और 20 क्लर्क हैं। प्रत्येक प्रबंधक को 25000 रुपये का हिस्सा मिला। एक पर्यवेक्षक और एक क्लर्क द्वारा प्राप्त राशि का योग ज्ञात कीजिए।

Options :

1. ✖ 21000 रूपयें
2. ✖ 16400 रूपयें
3. ✖ 19200 रूपयें
4. ✔ 17500 रूपयें

Question Number : 103 Question Id : 54592721111 Question Type : MCQ Option Shuffling : Yes

Correct Marks : 1 Wrong Marks : 0.25

The compound interest accrued on Rs. 18000 in two years is Rs. 2995.2. What will be the simple interest accrued at the same rate of interest for the same sum for three years?

Options :

1. ✖ Rs. 5480

2. ✓ Rs. 4320

3. ✗ Rs. 4850

4. ✗ Rs. 5220

Question Number : 103 Question Id : 54592721111 Question Type : MCQ Option Shuffling : Yes

Correct Marks : 1 Wrong Marks : 0.25

दो वर्षों में 18000 रुपये पर अर्जित चक्रवृद्धि ब्याज 2995.2 रुपये है।
तीन वर्षों के लिए समान धन पर ब्याज की समान दर पर अर्जित
साधारण ब्याज क्या होगा?

Options :

1. ✗ 5480 रूपयें

2. ✓ 4320 रूपयें

3. ✗ 4850 रूपयें

4. ✗ 5220 रूपयें

Question Number : 104 Question Id : 54592721112 Question Type : MCQ Option Shuffling : Yes

Correct Marks : 1 Wrong Marks : 0.25

The simple interest on a certain sum for 7 months at 4 percent per annum is Rs. 124 less than the simple interest on the same sum for 15 months at 6 percent per annum. The sum is:

Options :

1. ✗ Rs. 2,680

2. ✓ Rs. 2,400

3. ✗ Rs. 2,560

4. ✗ Rs. 3,300

Question Number : 104 Question Id : 54592721112 Question Type : MCQ Option Shuffling : Yes

Correct Marks : 1 Wrong Marks : 0.25

एक निश्चित राशि पर 4 प्रतिशत वार्षिक दर से 7 महीनों का साधारण ब्याज, उसी राशि पर 6 प्रतिशत वार्षिक दर से 15 महीने के ब्याज से 124 रुपये कम है। वह राशि है:

Options :

1. ✖ 2,680 रूपयें
2. ✔ 2,400 रूपयें
3. ✖ 2,560 रूपयें
4. ✖ 3,300 रूपयें

Question Number : 105 Question Id : 54592721113 Question Type : MCQ Option Shuffling : Yes
Correct Marks : 1 Wrong Marks : 0.25

A sum of Rs.42000 is lent out in two parts in such a way that the compound interest on the first part in two years at the rate of 12.5 percent per annum compounded annually is Rs.6375. Find the interest on other part for two years at the rate of 6.5 percent per annum on simple interest.

Options :

1. ✔ Rs.2340
2. ✖ Rs.2650
3. ✖ Rs.2700
4. ✖ Rs.2120

Question Number : 105 Question Id : 54592721113 Question Type : MCQ Option Shuffling : Yes
Correct Marks : 1 Wrong Marks : 0.25

₹.42000 की राशि को दो भागों में इस तरह से उधार दिया जाता है कि दो साल में पहले हिस्से पर चक्रवृद्धि ब्याज 12.5 प्रतिशत प्रतिवर्ष (वार्षिक गणना) की दर से ₹.6375 है। साधारण ब्याज पर 6.5 प्रतिशत प्रति वर्ष की दर से दो वर्षों के लिए अन्य भाग पर ब्याज का पता लगाएं।

Options :

1. ✓ 2340 रूपयें
2. ✗ 2650 रूपयें
3. ✗ 2700 रूपयें
4. ✗ 2120 रूपयें

Question Number : 106 Question Id : 54592721114 Question Type : MCQ Option Shuffling : Yes

Correct Marks : 1 Wrong Marks : 0.25

Walking as $\frac{2}{5}$ of his usual speed, a man boy reaches his office 10 minute late. Find his usual time./

Note: For this question, discrepancy is found in question/answer. So, this question is ignored for all candidates.

Options :

1. 15 minutes
2. 20 minutes
3. 12 minutes
4. 16 minutes

Question Number : 106 Question Id : 54592721114 Question Type : MCQ Option Shuffling : Yes

Correct Marks : 1 Wrong Marks : 0.25

अपनी सामान्य गति के $\frac{2}{5}$ गति से चलने पर एक लड़का 10 मिनट देर से अपने स्कूल पहुंचता है। उसका सामान्य समय ज्ञात कीजिए।

Note: For this question, discrepancy is found in question/answer. So, this question is ignored for all candidates.

Options :

1. 15 मिनट

2. 20 मिनट

3. 12 मिनट

4. 16 मिनट

Question Number : 107 Question Id : 54592721115 Question Type : MCQ Option Shuffling : Yes
Correct Marks : 1 Wrong Marks : 0.25

The speed of a bike increases by 1 km/hr after every hour. If the distance travelled in the first one hour was 40 km, the total distance travelled in 8 hours was:

Options :

1. * 356 km

2. * 382 km

3. ✓ 348 km

4. * 342 km

Question Number : 107 Question Id : 54592721115 Question Type : MCQ Option Shuffling : Yes
Correct Marks : 1 Wrong Marks : 0.25

प्रत्येक घंटे बाइक की गति 1 किमी/घंटा बढ़ जाती है। यदि पहले घंटे में बाइक द्वारा तय दूरी 40 किमी थी, तो 8 घंटे में बाइक द्वारा तय दूरी थी:

Options :

1. * 356 किमी

2. * 382 किमी

3. ✓ 348 किमी

4. * 342 किमी

Question Number : 108 Question Id : 54592721116 Question Type : MCQ Option Shuffling : Yes
Correct Marks : 1 Wrong Marks : 0.25

A train passes a 360 metre long platform in 40 seconds and a man standing on the platform in 16 seconds. The speed of the train is:

Options :

1. ✖ 38 kmph
2. ✖ 40 kmph
3. ✖ 50 kmph
4. ✔ 54 kmph

Question Number : 108 Question Id : 54592721116 Question Type : MCQ Option Shuffling : Yes

Correct Marks : 1 Wrong Marks : 0.25

एक ट्रेन 360 मीटर लम्बी प्लेटफार्म को 40 सेकंड में पार करता है तथा एक आदमी जो कि प्लेटफार्म पर खड़ा है, को 16 सेकंड में पार करता है | ट्रेन की गति है:

Options :

1. ✖ 38 किमी/घंटा
2. ✖ 40 किमी/घंटा
3. ✖ 50 किमी/घंटा
4. ✔ 54 किमी/घंटा

Question Number : 109 Question Id : 54592721117 Question Type : MCQ Option Shuffling : Yes

Correct Marks : 1 Wrong Marks : 0.25

Two pipes A and B can fill a cistern in 9 minutes and 6 minutes respectively. Both the pipes are turned on simultaneously. When should the second pipe be closed, if the cistern is to be filled in 4 minutes?

Note: For this question, discrepancy is found in question/answer. So, this question is ignored for all candidates.

Options :

1. 6 min
2. 3 min

3. 2 min

4. 4 min

Question Number : 109 Question Id : 54592721117 Question Type : MCQ Option Shuffling : Yes

Correct Marks : 1 Wrong Marks : 0.25

दो पाइप A और B एक टैंक को क्रमशः 9 और 6 मिनट में भरते हैं। दोनों पाइप को एक साथ खोला जाता है। दूसरे पाइप को कब बंद किया जाये जिससे कि टैंक 4 मिनट में भर जायें?

Note: For this question, discrepancy is found in question/answer. So, this question is ignored for all candidates.

Options :

1. 6 मिनट

2. 3 मिनट

3. 2 मिनट

4. 4 मिनट

Question Number : 110 Question Id : 54592721118 Question Type : MCQ Option Shuffling : Yes

Correct Marks : 1 Wrong Marks : 0.25

A certain number of men can finish a piece of work in 50 days. If however, there were 4 men less, it would take 20 more days for the work to be finished. How many men were there originally?

Options :

1. * 18

2. * 15

3. * 16

4. ✓ 14

Question Number : 110 Question Id : 54592721118 Question Type : MCQ Option Shuffling : Yes

Correct Marks : 1 Wrong Marks : 0.25

कुछ लोग किसी काम को 50 दिन में कर सकते हैं। यदि 4 व्यक्ति कम होते तो कार्य को समाप्त करने में 20 दिन और अधिक समय लगता। प्रारम्भ में कितने लोग थे?

Options :

1. ✖ 18
2. ✖ 15
3. ✖ 16
4. ✔ 14

Question Number : 111 Question Id : 54592721119 Question Type : MCQ Option Shuffling : Yes
Correct Marks : 1 Wrong Marks : 0.25

12 men can complete a work in 10 days. 25 women can complete the same work in 6 days. In how many days 8 men and 4 women can complete the same work, working together?

Options :

1. ✖ $8\frac{5}{7}$ days
2. ✔ $10\frac{5}{7}$ days
3. ✖ $4\frac{3}{7}$ days
4. ✖ $2\frac{3}{7}$ days

Question Number : 111 Question Id : 54592721119 Question Type : MCQ Option Shuffling : Yes
Correct Marks : 1 Wrong Marks : 0.25

12 पुरुष एक कार्य को 10 दिनों में पूरा कर सकते हैं। 25 औरतें उसी कार्य को 6 दिनों में पूरा कर सकती हैं। 8 पुरुष तथा 4 औरतें उसी कार्य को एक साथ कितने दिनों में पूरा कर सकते हैं?

Options :

1. ✖ $8\frac{5}{7}$ दिन

2. ✔ $10\frac{5}{7}$ दिन

3. ✖ $4\frac{3}{7}$ दिन

4. ✖ $2\frac{3}{7}$ दिन

Question Number : 112 Question Id : 54592721120 Question Type : MCQ Option Shuffling : Yes

Correct Marks : 1 Wrong Marks : 0.25

Each side of a cube is 8 units. It is cut into cubes each of side 4 unit. The total surface area of all the smaller cubes thus obtained is :

Options :

1. ✖ 456 square units

2. ✖ 372 square units

3. ✔ 768 square units

4. ✖ 560 square units

Question Number : 112 Question Id : 54592721120 Question Type : MCQ Option Shuffling : Yes

Correct Marks : 1 Wrong Marks : 0.25

एक घन की सभी भुजाएं 8 इकाई हैं यदि इसको 4 इकाई भुजा के छोटे-छोटे घनों में काट दिया जाता है। सभी छोटे घनों का कुल पृष्ठीय क्षेत्रफल क्या होगा?

Options :

1. * 456 वर्ग इकाई
2. * 372 वर्ग इकाई
3. ✓ 768 वर्ग इकाई
4. * 560 वर्ग इकाई

Question Number : 113 Question Id : 54592721121 Question Type : MCQ Option Shuffling : Yes

Correct Marks : 1 Wrong Marks : 0.25

A wall of 36 metre long, 32 metre wide and 28 meter high is made up of $1 \times 2 \times 3$ bricks. If a window occupies $\frac{1}{8}$ th of the volume of the wall, find the number of bricks?

Options :

1. * 4830
2. * 4605
3. * 4250
4. ✓ 4704

Question Number : 113 Question Id : 54592721121 Question Type : MCQ Option Shuffling : Yes

Correct Marks : 1 Wrong Marks : 0.25

36 मीटर लंबी, 32 मीटर चौड़ी और 28 मीटर ऊँची दीवार को $1 \times 2 \times 3$ की ईंटों से बनाया गया है। यदि दीवार के $\frac{1}{8}$ वें भाग में खिड़की है तो ईंटों की संख्या ज्ञात कीजिए।

Options :

1. * 4830
2. * 4605

3. ✖ 4250

4. ✔ 4704

Question Number : 114 Question Id : 54592721122 Question Type : MCQ Option Shuffling : Yes

Correct Marks : 1 Wrong Marks : 0.25

Find the area of a triangle whose sides are 12 cm, 16 cm and 20 cm.

Options :

1. ✖ 72 cm^2

2. ✔ 96 cm^2

3. ✖ 108 cm^2

4. ✖ 144 cm^2

Question Number : 114 Question Id : 54592721122 Question Type : MCQ Option Shuffling : Yes

Correct Marks : 1 Wrong Marks : 0.25

एक त्रिभुज का क्षेत्रफल ज्ञात करें जिसकी भुजाएँ 12 सेमी, 16 सेमी और 20 सेमी हैं।

Options :

1. ✖ 72 सेमी^2

2. ✔ 96 सेमी^2

3. ✖ 108 सेमी^2

4. ✖ 144 सेमी^2

Question Number : 115 Question Id : 54592721123 Question Type : MCQ Option Shuffling : Yes

Correct Marks : 1 Wrong Marks : 0.25

Study the following table and answer the questions given below:

Trade deficit 2001-2006

(All figures in Rs.crores)

Year	2001-02	2002-03	2003-04	2004-05	2005-06
Exports	34133	35680	34298	38258	44894
Imports	48948	51187	47587	47544	59264

Trade Deficit = Import - Export

$$TD\% = \frac{\text{Trade Deficit}}{\text{Export}} \times 100$$

Find the total trade deficit during the entire period.

Note: For this question, discrepancy is found in question/answer. So, this question is ignored for all candidates.

Options :

1. 72507
2. 72563
3. 75207
4. 75063

Question Number : 115 Question Id : 54592721123 Question Type : MCQ Option Shuffling : Yes

Correct Marks : 1 Wrong Marks : 0.25

निर्देश: निम्नलिखित तालिका का अध्ययन करें और नीचे दिए गए प्रश्नों के उत्तर दें:

व्यापार घाटा 2001-2006

(सभी आंकड़े करोड़ रुपये में)

वर्ष	2001-02	2002-03	2003-04	2004-05	2005-06
निर्यात	34133	35680	34298	38258	44894
आयात	48948	51187	47587	47544	59264

व्यापार घाटा = आयात - निर्यात

व्यापार घाटा % = $\frac{\text{व्यापार घाटा}}{\text{निर्यात}} \times 100$

कुल अवधि के दौरान कुल व्यापार घाटा ज्ञात कीजिए।

Note: For this question, discrepancy is found in question/answer. So, this question is ignored for all candidates.

Options :

1. 72507
2. 72563
3. 75207
4. 75063

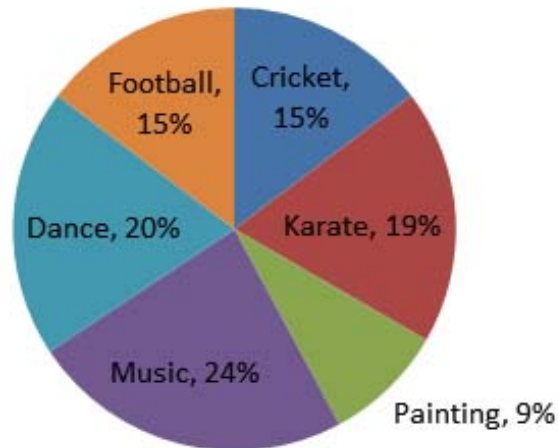
Question Number : 116 Question Id : 54592721124 Question Type : MCQ Option Shuffling : Yes

Correct Marks : 1 Wrong Marks : 0.25

DIRECTIONS: Study the following Pie-chart carefully to answer these questions.

Total number of student = 8500

Percentage of student enrolled in different activities of school



How much more percent (approximately) number of students are there in dance as compared to the number of student in football?

Options :

1. ✘ 29

2. ✘ 49

3. ✘ 43

4. ✔ 33

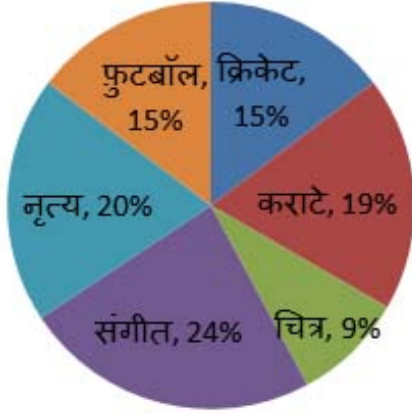
Question Number : 116 Question Id : 54592721124 Question Type : MCQ Option Shuffling : Yes

Correct Marks : 1 Wrong Marks : 0.25

निर्देश: निम्नलिखित पाई-चार्ट का ध्यानपूर्वक अध्ययन कर प्रश्न का उत्तर दे।

छात्रों की कुल संख्या = 8500

स्कूल की विभिन्न गतिविधियों में नामांकित छात्रों का प्रतिशत



फुटबॉल में छात्रों की संख्या की तुलना में नृत्य में (लगभग) कितने प्रतिशत छात्र अधिक हैं?

Options :

1. ✘ 29
2. ✘ 49
3. ✘ 43
4. ✔ 33

Question Number : 117 Question Id : 54592721125 Question Type : MCQ Option Shuffling : Yes

Correct Marks : 1 Wrong Marks : 0.25

DIRECTIONS: Given below is the information about the weight, colours, and size of toy bears in a toy shop. Refer to the table below and answer the questions that follow:

Weight (kg)		Bear in stock, by size and colour			
Small	Large		Brown	Blue	White
2	3	Small	5	10	12
		Large	6	8	4

What is the ratio of the weight of blue bears to that of white bears?

Options :

1. * 3 : 4

2. * 4 : 3

3. ✓ 11 : 9

4. * 9 : 11

Question Number : 117 Question Id : 54592721125 Question Type : MCQ Option Shuffling : Yes

Correct Marks : 1 Wrong Marks : 0.25

निर्देश: नीचे दिए गए खिलौने की दुकान में बीयर के वजन, रंग और खिलौने के आकार के बारे में जानकारी दी गई है। नीचे दी गई तालिका के संदर्भ में प्रश्न का उत्तर दें-

वजन (किग्रा)		आकार और रंग के अनुसार स्टॉक में बीयर			
छोटा	बड़ा		भूरा	नीला	सफेद
2	3	छोटा	5	10	12
		बड़ा	6	8	4

सफेद बीयर का नीले बीयर से वजन का अनुपात क्या है?

Options :

1. ✖ 3 : 4

2. ✖ 4 : 3

3. ✔ 11 : 9

4. ✖ 9 : 11

Question Number : 118 Question Id : 54592721126 Question Type : MCQ Option Shuffling : Yes

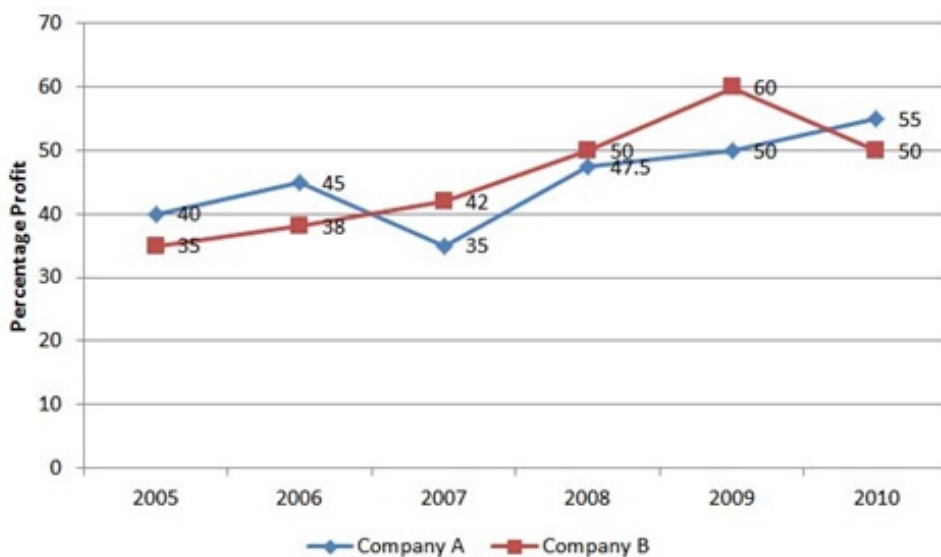
Correct Marks : 1 Wrong Marks : 0.25

DIRECTIONS: Study the following graph carefully to answer the questions:

Percent Profit Earned by Two Companies Over the Years

Percent profit

= $(\text{Income} - \text{Expenditure}) \times 100 / \text{Expenditure}$



If the income of company A in the year 2006 was 6.425 lakh, what was its expenditure in that year?

Options :

1. ✖ 4.7 lakh.

2. ✖ 5.2 lakh.

3. ✖ 4.5 lakh.

4. ✓ 4.43 lakh.

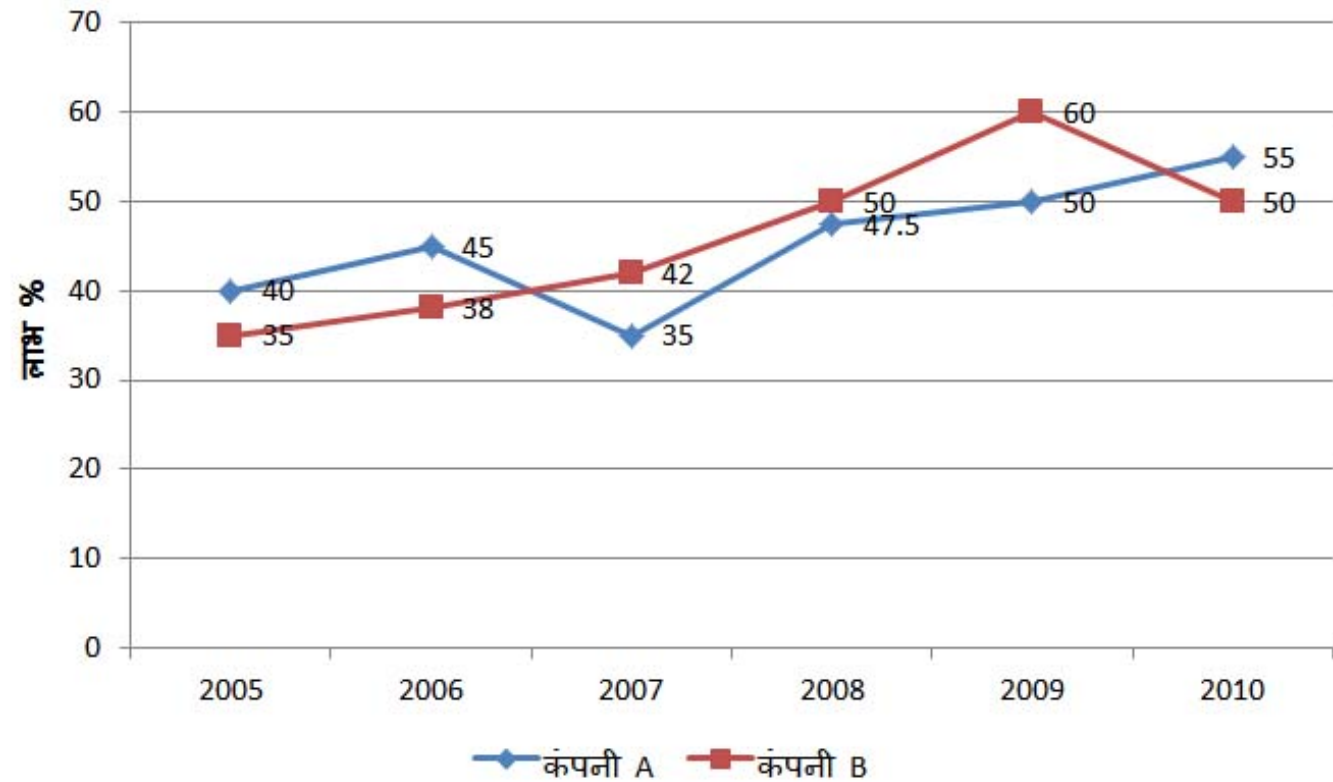
Question Number : 118 Question Id : 54592721126 Question Type : MCQ Option Shuffling : Yes

Correct Marks : 1 Wrong Marks : 0.25

निर्देश: निम्नलिखित ग्राफ का ध्यानपूर्वक अध्ययन कर प्रश्न का उत्तर दे:

प्रतिशत लाभ पिछले वर्षों में दो कंपनियों द्वारा अर्जित लाभ प्रतिशत

$$= (\text{आय}-\text{व्यय}) \times 100/\text{व्यय}$$



वर्ष 2006 में कंपनी A की आय 6.425 लाख थी, उस वर्ष इसका खर्च क्या था?

Options :

1. * 4.7 लाख

2. * 5.2 लाख

3. ✖ 4.5 लाख

4. ✔ 4.43 लाख

Question Number : 119 Question Id : 54592721127 Question Type : MCQ Option Shuffling : Yes

Correct Marks : 1 Wrong Marks : 0.25

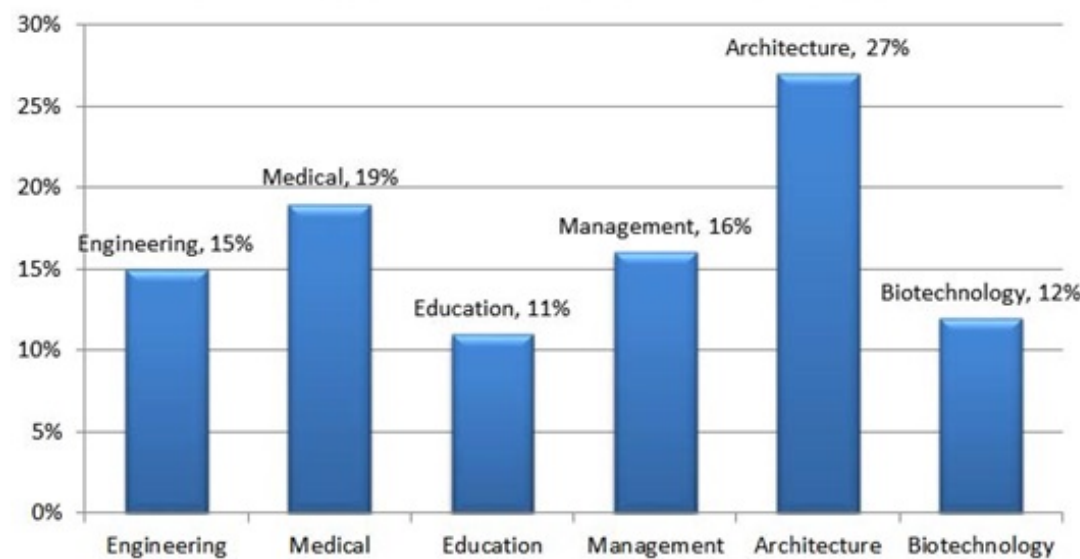
DIRECTIONS: Study the following pie-chart and answer the following questions.

Percentage wise Distribution of faculty in six different Departments

Total number of Faculties = 7200

Percentage of Faculties

Total number of Faculties = 7200 and Percentage of Faculties



One-third of the number of faculty of Architecture department has left. What is the number of remaining faculty in Architecture department?

Options :

1. ✖ 678

2. ✖ 1248

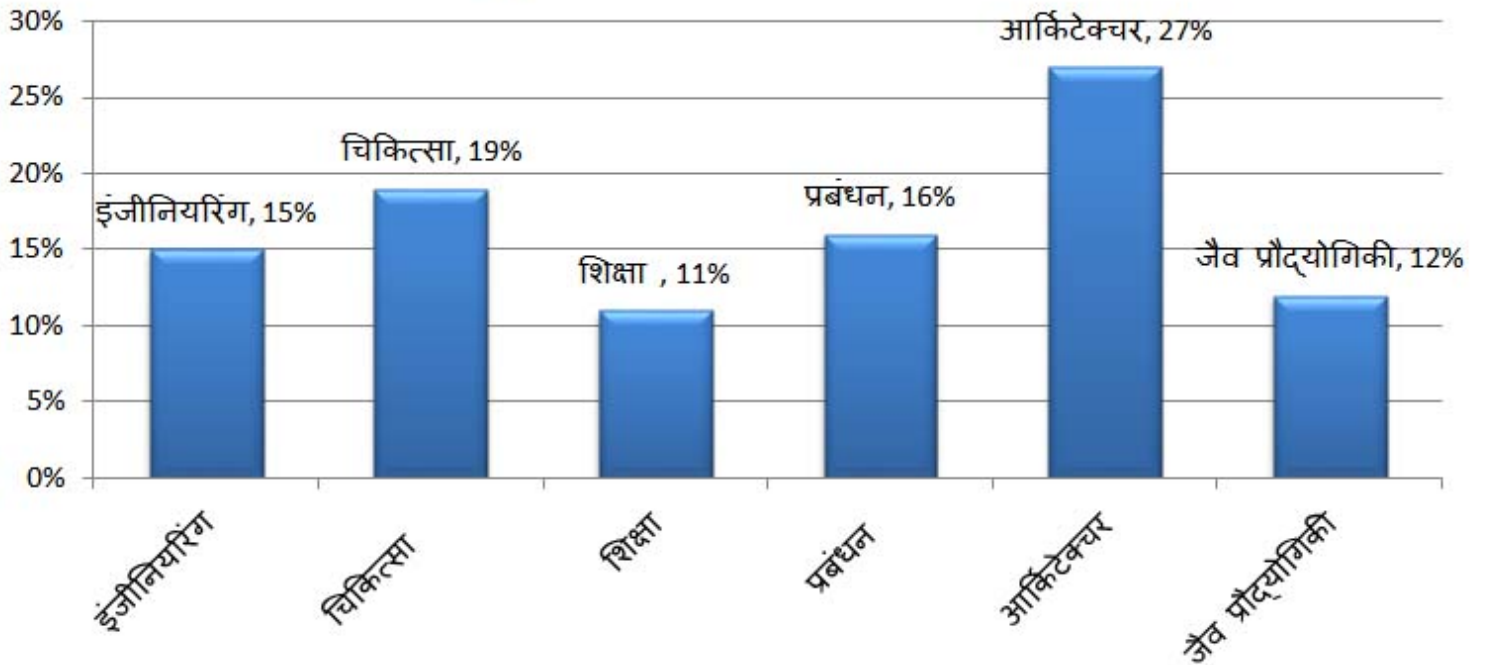
3. ✖ 648

4. ✓ 1296

Question Number : 119 Question Id : 54592721127 Question Type : MCQ Option Shuffling : Yes
Correct Marks : 1 Wrong Marks : 0.25

निर्देश: निम्नलिखित ग्राफ का ध्यानपूर्वक अध्ययन कर प्रश्न का उत्तर दे:
छह विभिन्न विभागों में संकाय का प्रतिशत वार वितरण
संकायों की कुल संख्या = 7200
संकायों का प्रतिशत

संकायों की कुल संख्या = 7200 और संकायों का प्रतिशत



आर्किटेक्चर विभाग के संकाय की संख्या का एक-तिहाई भाग छोड़ गए तब, आर्किटेक्चर विभाग में शेष संकाय की संख्या क्या है?

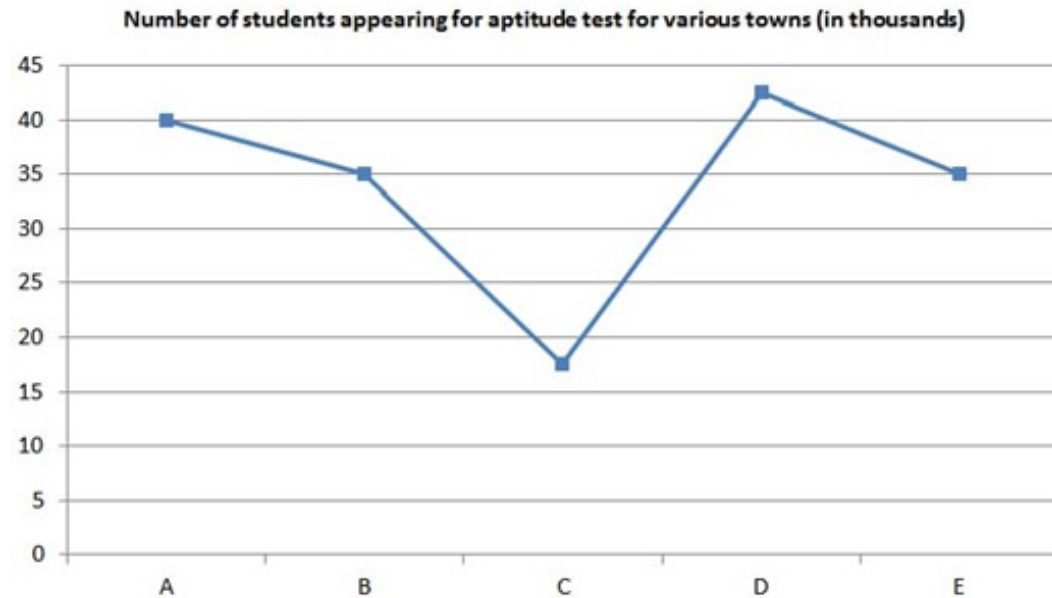
Options :

1. ✗ 678
2. ✗ 1248
3. ✗ 648
4. ✓ 1296

Question Number : 120 Question Id : 54592721128 Question Type : MCQ Option Shuffling : Yes

Correct Marks : 1 Wrong Marks : 0.25

DIRECTIONS: Study the following Graph carefully and answer the questions given below:



What is the respective ratio of the number of students appearing for the Aptitude test from Town C and D together to the number of students appearing for the Aptitude test from Town A, D and E together?

Options :

1. ✖ 11 : 13

2. ✖ 20 : 43

3. ✖ 20 : 47

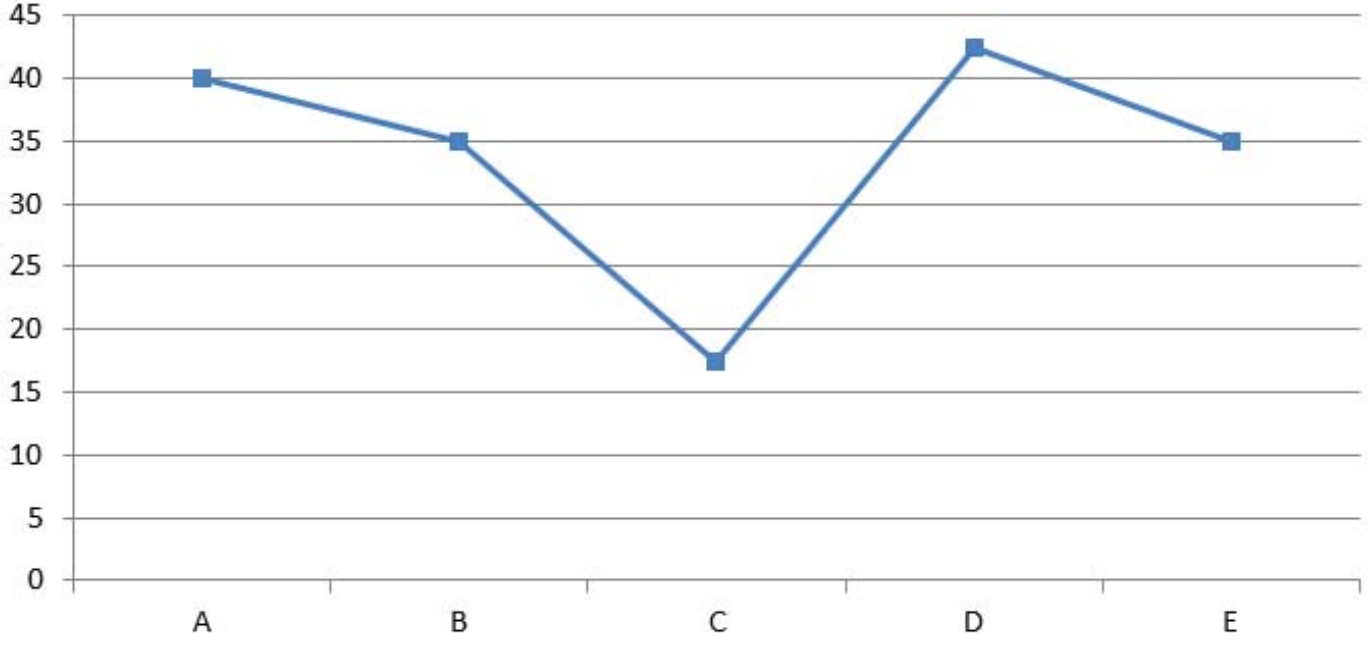
4. ✔ 24 : 47

Question Number : 120 Question Id : 54592721128 Question Type : MCQ Option Shuffling : Yes

Correct Marks : 1 Wrong Marks : 0.25

निर्देश: निम्नलिखित ग्राफ का ध्यानपूर्वक अध्ययन कर प्रश्न का उत्तर दे:

विभिन्न शहरों के लिए योग्यता परीक्षा के लिए उपस्थित होने वाले छात्रों की संख्या
(हजारों में)



टाउन C और D से एप्टीट्यूड टेस्ट के लिए उपस्थित होने वाले छात्रों की संख्या और टाउन A, D और E से एक साथ एप्टीट्यूड टेस्ट के लिए आने वाले छात्रों की संख्या का संबंधित अनुपात क्या है?

Options :

1. ✘ 11 : 13
2. ✘ 20 : 43
3. ✘ 20 : 47
4. ✔ 24 : 47

General English1

Group Id :	5459271047
Group Maximum Duration :	0
Group Minimum Duration :	0
Show Attended Group? :	No
Edit Attended Group? :	No
Break time:	0
Group Marks:	20
Is this Group for Examiner?:	No
Revisit allowed for group Instructions? :	Yes
Maximum Instruction Time:	0
Minimum Instruction Time:	0

General English1

Section Id :	5459271047
Section Number :	1
Section type :	Online
Mandatory or Optional:	Mandatory
Number of Questions:	20
Number of Questions to be attempted:	20
Section Marks:	20

Sub-Section Number:	1
Sub-Section Id:	5459271255
Question Shuffling Allowed :	Yes

Question Number : 121 Question Id : 54592721129 Question Type : MCQ Option Shuffling : Yes
Correct Marks : 1 Wrong Marks : 0.25

The following sentence has been divided into three parts. One of them may be incorrect. Choose the **INCORRECT** part from the given options. If you don't find any error, mark 'No error' as your answer.

Creativity is contagious, / and the Your Shot photo community/ spreads it every day.

Options :

1. * Creativity is contagious
2. * and the Your Shot photo community
3. * spreads it every day.
4. ✓ No Error

Question Number : 121 Question Id : 54592721129 Question Type : MCQ Option Shuffling : Yes

Correct Marks : 1 Wrong Marks : 0.25

The following sentence has been divided into three parts. One of them may be incorrect. Choose the INCORRECT part from the given options. If you don't find any error, mark 'No error' as your answer.

Creativity is contagious, / and the Your Shot photo community/ spreads it every day.

Options :

1. ✘ Creativity is contagious
2. ✘ and the Your Shot photo community
3. ✘ spreads it every day.
4. ✔ No Error

Question Number : 122 Question Id : 54592721130 Question Type : MCQ Option Shuffling : Yes

Correct Marks : 1 Wrong Marks : 0.25

The following sentence has been divided into three parts. One of them may be incorrect. Choose the INCORRECT part from the given options. If you don't find any error, mark 'No error' as your answer.

Planetary scientists use solstices and equinoxes / to defining 'seasons' for / other planets in our solar system.

Options :

1. ✘ Planetary scientists use solstices and equinoxes
2. ✔ to defining 'seasons' for

3. ✖ other planets in our solar system.

4. ✖ No Error

Question Number : 122 Question Id : 54592721130 Question Type : MCQ Option Shuffling : Yes

Correct Marks : 1 Wrong Marks : 0.25

The following sentence has been divided into three parts. One of them may be incorrect. Choose the INCORRECT part from the given options. If you don't find any error, mark 'No error' as your answer.

Planetary scientists use solstices and equinoxes / to defining 'seasons' for / other planets in our solar system.

Options :

1. ✖ Planetary scientists use solstices and equinoxes

2. ✔ to defining 'seasons' for

3. ✖ other planets in our solar system.

4. ✖ No Error

Question Number : 123 Question Id : 54592721131 Question Type : MCQ Option Shuffling : Yes

Correct Marks : 1 Wrong Marks : 0.25

The following sentence has been divided into three parts. One of them may be incorrect. Choose the INCORRECT part from the given options. If you don't find any error, mark 'No error' as your answer.

In case the ability to glide between / trees isn't cool enough, under ultraviolet light, / flying squirrels fur glows pink.

Options :

1. ✖ In case the ability to glide between
2. ✖ trees isn't cool enough, under ultraviolet light
3. ✔ flying squirrels fur glows pink.
4. ✖ No Error

Question Number : 123 Question Id : 54592721131 Question Type : MCQ Option Shuffling : Yes

Correct Marks : 1 Wrong Marks : 0.25

The following sentence has been divided into three parts. One of them may be incorrect. Choose the INCORRECT part from the given options. If you don't find any error, mark 'No error' as your answer.

In case the ability to glide between / trees isn't cool enough, under ultraviolet light, / flying squirrels fur glows pink.

Options :

1. ✖ In case the ability to glide between
2. ✖ trees isn't cool enough, under ultraviolet light
3. ✔ flying squirrels fur glows pink.
4. ✖ No Error

Question Number : 124 Question Id : 54592721132 Question Type : MCQ Option Shuffling : Yes
Correct Marks : 1 Wrong Marks : 0.25

The following sentence has been divided into three parts. One of them may be incorrect. Choose the INCORRECT part from the given options. If you don't find any error, mark 'No error' as your answer.

On a trip to the forests of southern India, / I was stunning to see massive / rodents leaping treetop to treetop.

Options :

1. ✖ On a trip to the forests of southern India,
2. ✔ I was stunning to see massive
3. ✖ rodents leaping from treetop to treetop.
4. ✖ No Error

Question Number : 124 Question Id : 54592721132 Question Type : MCQ Option Shuffling : Yes
Correct Marks : 1 Wrong Marks : 0.25

The following sentence has been divided into three parts. One of them may be incorrect. Choose the INCORRECT part from the given options. If you don't find any error, mark 'No error' as your answer.

On a trip to the forests of southern India, / I was stunning to see massive / rodents leaping treetop to treetop.

Options :

1. ✖ On a trip to the forests of southern India,
2. ✔ I was stunning to see massive

3. ✖ rodents leaping from treetop to treetop.

4. ✖ No Error

Question Number : 125 Question Id : 54592721133 Question Type : MCQ Option Shuffling : Yes

Correct Marks : 1 Wrong Marks : 0.25

The following sentence has been divided into three parts. One of them may be incorrect. Choose the INCORRECT part from the given options. If you don't find any error, mark 'No error' as your answer.

Each year the squirrels hoard seeds and nuts / in various places, using their excellent / sense in smell to locate the food.

Options :

1. ✖ Each year the squirrels hoard seeds and nuts

2. ✖ in various places, using their excellent

3. ✔ sense in smell to locate the food.

4. ✖ No Error

Question Number : 125 Question Id : 54592721133 Question Type : MCQ Option Shuffling : Yes

Correct Marks : 1 Wrong Marks : 0.25

The following sentence has been divided into three parts. One of them may be incorrect. Choose the INCORRECT part from the given options. If you don't find any error, mark 'No error' as your answer.

Each year the squirrels hoard seeds and nuts / in various places, using their excellent / sense in smell to locate the food.

Options :

1. ✖ Each year the squirrels hoard seeds and nuts
2. ✖ in various places, using their excellent
3. ✔ sense in smell to locate the food.
4. ✖ No Error

Question Number : 126 Question Id : 54592721134 Question Type : MCQ Option Shuffling : Yes

Correct Marks : 1 Wrong Marks : 0.25

Select the most appropriate option to substitute the underlined segment in the given sentence. If there is no need to substitute it, select option No substitution required .

It was the summer of 1994, and he was doing research on the ecology of Yellowstone Lake.

Options :

1. ✖ will be doing

2. ✖ will do

3. ✖ was done

4. ✔ No substitution required

Question Number : 126 Question Id : 54592721134 Question Type : MCQ Option Shuffling : Yes
Correct Marks : 1 Wrong Marks : 0.25

Select the most appropriate option to substitute the underlined segment in the given sentence. If there is no need to substitute it, select option No substitution required .

It was the summer of 1994, and he was doing research on the ecology of Yellowstone Lake.

Options :

1. ✖ will be doing

2. ✖ will do

3. ✖ was done

4. ✔ No substitution required

Question Number : 127 Question Id : 54592721135 Question Type : MCQ Option Shuffling : Yes
Correct Marks : 1 Wrong Marks : 0.25

Select the most appropriate option to substitute the underlined segment in the given sentence. If there is no need to substitute it, select option No substitution required .

Freshwater environments, from creeks to rivers, have more than 10,000 species of fish, we might never get the chance to see.

Options :

1. ✖ we might not having
2. ✖ We may didn't have
3. ✔ we may never get
4. ✖ No substitution required

Question Number : 127 Question Id : 54592721135 Question Type : MCQ Option Shuffling : Yes

Correct Marks : 1 Wrong Marks : 0.25

Select the most appropriate option to substitute the underlined segment in the given sentence. If there is no need to substitute it, select option No substitution required .

Freshwater environments, from creeks to rivers, have more than 10,000 species of fish, we might never get the chance to see.

Options :

1. ✘ we might not having
2. ✘ We may didn't have
3. ✔ we may never get
4. ✘ No substitution required

Question Number : 128 Question Id : 54592721136 Question Type : MCQ Option Shuffling : Yes

Correct Marks : 1 Wrong Marks : 0.25

Select the most appropriate option to substitute the underlined segment in the given sentence. If there is no need to substitute it, select option No substitution required .

Many biologists suggest that it was time to removed the Yellowstone grizzly bear from the list of threatened species.

Options :

1. ✖ it was time to remove
2. ✖ it was remove
3. ✔ it is time to remove
4. ✖ No substitution required

Question Number : 128 Question Id : 54592721136 Question Type : MCQ Option Shuffling : Yes
Correct Marks : 1 Wrong Marks : 0.25

Select the most appropriate option to substitute the underlined segment in the given sentence. If there is no need to substitute it, select option No substitution required .

Many biologists suggest that it was time to removed the Yellowstone grizzly bear from the list of threatened species.

Options :

1. ✖ it was time to remove
2. ✖ it was remove
3. ✔ it is time to remove
4. ✖ No substitution required

Question Number : 129 Question Id : 54592721137 Question Type : MCQ Option Shuffling : Yes
Correct Marks : 1 Wrong Marks : 0.25

Select the most appropriate option to substitute the underlined segment in the given sentence. If there is no need to substitute it, select option No substitution required .

Researchers have found that wolves is far more flexible than most people had realized.

Options :

1. ✖ is more flexible then
2. ✔ are far more flexible than
3. ✖ is much flexible to
4. ✖ No substitution required

Question Number : 129 Question Id : 54592721137 Question Type : MCQ Option Shuffling : Yes
Correct Marks : 1 Wrong Marks : 0.25

Select the most appropriate option to substitute the underlined segment in the given sentence. If there is no need to substitute it, select option No substitution required .

Researchers have found that wolves is far more flexible than most people had realized.

Options :

1. ✖ is more flexible then
2. ✔ are far more flexible than
3. ✖ is much flexible to

4. ✖ No substitution required

Question Number : 130 Question Id : 54592721138 Question Type : MCQ Option Shuffling : Yes
Correct Marks : 1 Wrong Marks : 0.25

Select the most appropriate option to substitute the underlined segment in the given sentence. If there is no need to substitute it, select option No substitution required .

The world's largest aquarium is a little quiet this afternoon, with the changing tide limiting visibility to less than 30 feet.

Options :

1. ✖ the changed tide limited
2. ✖ a changed tide limiting
3. ✖ the changing tide limited
4. ✔ No substitution required

Question Number : 130 Question Id : 54592721138 Question Type : MCQ Option Shuffling : Yes
Correct Marks : 1 Wrong Marks : 0.25

Select the most appropriate option to substitute the underlined segment in the given sentence. If there is no need to substitute it, select option No substitution required .

The world's largest aquarium is a little quiet this afternoon, with the changing tide limiting visibility to less than 30 feet.

Options :

1. ✖ the changed tide limited
2. ✖ a changed tide limiting
3. ✖ the changing tide limited
4. ✔ No substitution required

Question Number : 131 Question Id : 54592721139 Question Type : MCQ Option Shuffling : Yes

Correct Marks : 1 Wrong Marks : 0.25

Select the most appropriate word to fill in the blank.

_____ the number of fish decline, there will be fewer opportunities to go fishing in the lake.

Options :

1. ✔ As
2. ✖ Because
3. ✖ Although
4. ✖ Yet

Question Number : 131 Question Id : 54592721139 Question Type : MCQ Option Shuffling : Yes
Correct Marks : 1 Wrong Marks : 0.25

Select the most appropriate word to fill in the blank.

_____ the number of fish decline, there will be fewer opportunities to go fishing in the lake.

Options :

1. ✓ As
2. ✗ Because
3. ✗ Although
4. ✗ Yet

Question Number : 132 Question Id : 54592721140 Question Type : MCQ Option Shuffling : Yes
Correct Marks : 1 Wrong Marks : 0.25

Select the most appropriate word to fill in the blank.

Wolves are among our planet's best-studied animals, yet _____ habits have remained relatively mysterious.

Options :

1. ✗ there
2. ✓ their
3. ✗ they're
4. ✗ they had

Question Number : 132 Question Id : 54592721140 Question Type : MCQ Option Shuffling : Yes
Correct Marks : 1 Wrong Marks : 0.25

Select the most appropriate word to fill in the blank.

Wolves are among our planet's best-studied animals, yet _____ habits have remained relatively mysterious.

Options :

1. ✖ there
2. ✔ their
3. ✖ they're
4. ✖ they had

Question Number : 133 Question Id : 54592721141 Question Type : MCQ Option Shuffling : Yes

Correct Marks : 1 Wrong Marks : 0.25

Select the most appropriate word to fill in the blank.

It's hard to believe that the red wolves and gray wolves are still _____: as they were thought to be extinct.

Options :

1. ✖ thrive
2. ✖ being
3. ✔ around
4. ✖ upon

Question Number : 133 Question Id : 54592721141 Question Type : MCQ Option Shuffling : Yes

Correct Marks : 1 Wrong Marks : 0.25

Select the most appropriate word to fill in the blank.

It's hard to believe that the red wolves and gray wolves are still _____: as they were thought to be extinct.

Options :

1. ✖ thrive
2. ✖ being
3. ✔ around
4. ✖ upon

Question Number : 134 Question Id : 54592721142 Question Type : MCQ Option Shuffling : Yes

Correct Marks : 1 Wrong Marks : 0.25

Select the most appropriate word to fill in the blank.

They've been called "rats with tails, the humble eastern gray squirrel is finally _____ sometime in the spotlight.

Options :

1. ✖ going to
2. ✖ get
3. ✖ have got
4. ✔ getting

Question Number : 134 Question Id : 54592721142 Question Type : MCQ Option Shuffling : Yes

Correct Marks : 1 Wrong Marks : 0.25

Select the most appropriate word to fill in the blank.

They've been called "rats with tails, the humble eastern gray squirrel is finally _____ sometime in the spotlight.

Options :

1. ✘ going to
2. ✘ get
3. ✘ have got
4. ✔ getting

Question Number : 135 Question Id : 54592721143 Question Type : MCQ Option Shuffling : Yes
Correct Marks : 1 Wrong Marks : 0.25

Select the most appropriate word to fill in the blank.

In November 2018, regional authorities opened an investigation _____ the illegal capture of marine mammals.

Options :

1. ✔ into
2. ✘ of
3. ✘ in
4. ✘ to

Question Number : 135 Question Id : 54592721143 Question Type : MCQ Option Shuffling : Yes

Correct Marks : 1 Wrong Marks : 0.25

Select the most appropriate word to fill in the blank.

In November 2018, regional authorities opened an investigation _____ the illegal capture of marine mammals.

Options :

1. ✓ into

2. ✗ of

3. ✗ in

4. ✗ to

Question Number : 136 Question Id : 54592721144 Question Type : MCQ Option Shuffling : Yes

Correct Marks : 1 Wrong Marks : 0.25

Select the most appropriate word to fill in the blank.

Aluminum's low density, light weight and malleability _____ it one of the most useful metals _____ industry today.

Options :

1. ✗ makes, of

2. ✓ make, in

3. ✗ makes, in

4. ✗ make, into

Question Number : 136 Question Id : 54592721144 Question Type : MCQ Option Shuffling : Yes

Correct Marks : 1 Wrong Marks : 0.25

Select the most appropriate word to fill in the blank.

Aluminum's low density, light weight and malleability _____ it one of the most useful metals _____ industry today.

Options :

1. ✖ makes, of
2. ✔ make, in
3. ✖ makes, in
4. ✖ make, into

Question Number : 137 Question Id : 54592721145 Question Type : MCQ Option Shuffling : Yes

Correct Marks : 1 Wrong Marks : 0.25

Select the most appropriate word to fill in the blank.

The glaciers in the Himalaya are much less studied than Greenland's _____ it is amongst the most dangerous regions.

Options :

1. ✖ yet
2. ✖ alike
3. ✔ because
4. ✖ however

Question Number : 137 Question Id : 54592721145 Question Type : MCQ Option Shuffling : Yes

Correct Marks : 1 Wrong Marks : 0.25

Select the most appropriate word to fill in the blank.

The glaciers in the Himalaya are much less studied than Greenland's _____ it is amongst the most dangerous regions.

Options :

1. ✖ yet
2. ✖ alike
3. ✔ because
4. ✖ however

Question Number : 138 Question Id : 54592721146 Question Type : MCQ Option Shuffling : Yes

Correct Marks : 1 Wrong Marks : 0.25

Select the most appropriate word to fill in the blank.

The bottom surface of the sea ice is a thick slurry of floating ice crystals, and my descent _____ them in motion.

Options :

1. ✖ have set
2. ✖ had set
3. ✖ has setting
4. ✔ has set

Question Number : 138 Question Id : 54592721146 Question Type : MCQ Option Shuffling : Yes

Correct Marks : 1 Wrong Marks : 0.25

Select the most appropriate word to fill in the blank.

The bottom surface of the sea ice is a thick slurry of floating ice crystals, and my descent _____ them in motion.

Options :

1. ✖ have set
2. ✖ had set
3. ✖ has setting
4. ✔ has set

Question Number : 139 Question Id : 54592721147 Question Type : MCQ Option Shuffling : Yes
Correct Marks : 1 Wrong Marks : 0.25

Arrange the jumbled sentences to make a meaningful paragraph.

- A. Self-portraits have a long history in the art world.
- B. Since 2014, the United States has celebrated June 21 as National Selfie Day to honor this distinctive style.
- C. With the rise of smartphones, selfies captured by cameras rather than paint have become increasingly popular.
- D. What do you do when nobody is around to take your picture? You take a selfie.

Options :

1. ✔ DACB
2. ✖ BDCA

3. ✖ ABCD

4. ✖ DCBA

Question Number : 139 Question Id : 54592721147 Question Type : MCQ Option Shuffling : Yes

Correct Marks : 1 Wrong Marks : 0.25

Arrange the jumbled sentences to make a meaningful paragraph.

A. Self-portraits have a long history in the art world.

B. Since 2014, the United States has celebrated June 21 as National Selfie Day to honor this distinctive style.

C. With the rise of smartphones, selfies captured by cameras rather than paint have become increasingly popular.

D. What do you do when nobody is around to take your picture? You take a selfie.

Options :

1. ✔ DACB

2. ✖ BDCA

3. ✖ ABCD

4. ✖ DCBA

Question Number : 140 Question Id : 54592721148 Question Type : MCQ Option Shuffling : Yes

Correct Marks : 1 Wrong Marks : 0.25

Arrange the jumbled sentences to make a meaningful paragraph.

A. For Nespresso, delivering a consistently perfect cup of coffee meant creating a capsule system for people at home.

B. Each one needed a casing that was protective, durable, and airtight enough to ensure that the coffee inside stayed as fresh.

C. Aluminum is a material that met the challenge because it allows every capsule to be hermetically sealed, locking in that coffee aroma.

D. Aluminum's low density, light weight and malleability make it one of the most useful metals in industry today.

Options :

1. ✖ DABC

2. ✔ ABCD

3. ✖ CDAB

4. ✖ ABDC

Question Number : 140 Question Id : 54592721148 Question Type : MCQ Option Shuffling : Yes

Correct Marks : 1 Wrong Marks : 0.25

Arrange the jumbled sentences to make a meaningful paragraph.

A. For Nespresso, delivering a consistently perfect cup of coffee meant creating a capsule system for people at home.

B. Each one needed a casing that was protective, durable, and airtight enough to ensure that the coffee inside stayed as fresh.

C. Aluminum is a material that met the challenge because it allows every capsule to be hermetically sealed, locking in that coffee aroma.

D. Aluminum's low density, light weight and malleability make it one of the most useful metals in industry today.

Options :

1. ✘ DABC

2. ✔ ABCD

3. ✘ CDAB

4. ✘ ABDC

Group Number :	8
Group Id :	5459271048
Group Maximum Duration :	0
Group Minimum Duration :	0
Show Attended Group? :	No
Edit Attended Group? :	No
Break time:	0
Group Marks:	20
Is this Group for Examiner?:	No
Revisit allowed for group Instructions? :	Yes
Maximum Instruction Time:	0
Minimum Instruction Time:	0

General English2

Section Id :	5459271048
Section Number :	1
Section type :	Online
Mandatory or Optional:	Mandatory
Number of Questions:	16
Number of Questions to be attempted:	16
Section Marks:	20

Sub-Section Number:	1
Sub-Section Id:	5459271256
Question Shuffling Allowed :	Yes

**Question Number : 141 Question Id : 54592721149 Question Type : MCQ Option Shuffling : Yes
Correct Marks : 1 Wrong Marks : 0.25**

Arrange the jumbled sentences to make a meaningful paragraph.

A. Yuri Gagarin, Alan Shepard, and Neil Armstrong - the first wave of space travelers—were trained astronauts thought to have the “right stuff” for risky missions.

B. But early spaceflight wasn't the exclusive province of men – or even humans.

C. More than three years before Gagarin became the first human in space, the soviets sent up a stray dog.

D. Fruit flies, monkeys, mice, dogs, rabbits, and rats flew into space before humans.

Options :

1. ✖ ABCD

2. ✖ ADBC

3. ✔ ABDC

4. ✖ ADCB

Question Number : 141 Question Id : 54592721149 Question Type : MCQ Option Shuffling : Yes

Correct Marks : 1 Wrong Marks : 0.25

Arrange the jumbled sentences to make a meaningful paragraph.

A. Yuri Gagarin, Alan Shepard, and Neil Armstrong - the first wave of space travelers—were trained astronauts thought to have the “right stuff” for risky missions.

B. But early spaceflight wasn't the exclusive province of men - or even humans.

C. More than three years before Gagarin became the first human in space, the soviets sent up a stray dog.

D. Fruit flies, monkeys, mice, dogs, rabbits, and rats flew into space before humans.

Options :

1. ✖ ABCD

2. ✖ ADBC

3. ✔ ABDC

4. ✖ ADCB

Select the most appropriate synonym of the given word.

Resistance

Options :

1. ✓ Refusal
2. ✗ Merit
3. ✗ Comparison
4. ✗ Circumstance

Question Number : 142 Question Id : 54592721150 Question Type : MCQ Option Shuffling : Yes
Correct Marks : 1 Wrong Marks : 0.25

Select the most appropriate synonym of the given word.

Resistance

Options :

1. ✓ Refusal
2. ✗ Merit
3. ✗ Comparison
4. ✗ Circumstance

Question Number : 143 Question Id : 54592721151 Question Type : MCQ Option Shuffling : Yes
Correct Marks : 1 Wrong Marks : 0.25

Select the most appropriate antonym of the given word.

Mischievous

Options :

1. ✘ Irksome
2. ✔ Obedient
3. ✘ Tricky
4. ✘ Playful

Question Number : 143 Question Id : 54592721151 Question Type : MCQ Option Shuffling : Yes
Correct Marks : 1 Wrong Marks : 0.25

Select the most appropriate antonym of the given word.

Mischievous

Options :

1. ✘ Irksome
2. ✔ Obedient
3. ✘ Tricky
4. ✘ Playful

Question Number : 144 Question Id : 54592721152 Question Type : MCQ Option Shuffling : Yes
Correct Marks : 1 Wrong Marks : 0.25

Select the most appropriate synonym of the given word.

Mansion

Options :

1. ✘ Fortress

2. ✖ Domicile

3. ✔ A large impressive house

4. ✖ Plantation

Question Number : 144 Question Id : 54592721152 Question Type : MCQ Option Shuffling : Yes
Correct Marks : 1 Wrong Marks : 0.25

Select the most appropriate synonym of the given word.

Mansion

Options :

1. ✖ Fortress

2. ✖ Domicile

3. ✔ A large impressive house

4. ✖ Plantation

Question Number : 145 Question Id : 54592721153 Question Type : MCQ Option Shuffling : Yes
Correct Marks : 1 Wrong Marks : 0.25

Select the most appropriate antonym of the given word.

Harmony

Options :

1. ✔ Discord

2. ✖ Kinship

3. ✖ Rapport

4. ✖ Ecstasy

Question Number : 145 Question Id : 54592721153 Question Type : MCQ Option Shuffling : Yes
Correct Marks : 1 Wrong Marks : 0.25

Select the most appropriate antonym of the given word.

Harmony

Options :

1. ✓ Discord
2. ✗ Kinship
3. ✗ Rapport
4. ✗ Ecstasy

Question Number : 146 Question Id : 54592721154 Question Type : MCQ Option Shuffling : Yes

Correct Marks : 1 Wrong Marks : 0.25

Select the correct pair of homophones to fill in the blanks.

The stained glass windows behind the _____ in Glenn Church are in need of repair.

Genetic screening has the potential to _____ the genetic composition of the population.

Options :

1. ✗ altar, altar
2. ✓ altar, alter
3. ✗ alter, alter
4. ✗ alter, altar

Question Number : 146 Question Id : 54592721154 Question Type : MCQ Option Shuffling : Yes

Correct Marks : 1 Wrong Marks : 0.25

Select the correct pair of homophones to fill in the blanks.

The stained glass windows behind the _____ in Glenn Church are in need of repair.

Genetic screening has the potential to _____ the genetic composition of the population.

Options :

1. ✖ altar, altar
2. ✔ altar, alter
3. ✖ alter, alter
4. ✖ alter, altar

Question Number : 147 Question Id : 54592721155 Question Type : MCQ Option Shuffling : Yes
Correct Marks : 1 Wrong Marks : 0.25

Select the wrongly spelt word.

Options :

1. ✔ Elimnate
2. ✖ Competition
3. ✖ Absence
4. ✖ Endeavour

Question Number : 147 Question Id : 54592721155 Question Type : MCQ Option Shuffling : Yes
Correct Marks : 1 Wrong Marks : 0.25

Select the wrongly spelt word.

Options :

1. ✔ Elimnate

2. ✖ Competition

3. ✖ Absence

4. ✖ Endeavour

Question Number : 148 Question Id : 54592721156 Question Type : MCQ Option Shuffling : Yes
Correct Marks : 1 Wrong Marks : 0.25

Select the wrongly spelt word.

Options :

1. ✖ Gymnasium

2. ✔ Hygeine

3. ✖ Illustrate

4. ✖ Arousing

Question Number : 148 Question Id : 54592721156 Question Type : MCQ Option Shuffling : Yes
Correct Marks : 1 Wrong Marks : 0.25

Select the wrongly spelt word.

Options :

1. ✖ Gymnasium

2. ✔ Hygeine

3. ✖ Illustrate

4. ✖ Arousing

Question Number : 149 Question Id : 54592721157 Question Type : MCQ Option Shuffling : Yes
Correct Marks : 1 Wrong Marks : 0.25

Select the wrongly spelt word.

Options :

1. ✖ Extension

2. ✖ Innocence

3. ✔ Apperence

4. ✖ Obstacle

Question Number : 149 Question Id : 54592721157 Question Type : MCQ Option Shuffling : Yes
Correct Marks : 1 Wrong Marks : 0.25

Select the wrongly spelt word.

Options :

1. ✖ Extension
2. ✖ Innocence
3. ✔ Apperence
4. ✖ Obstacle

Question Number : 150 Question Id : 54592721158 Question Type : MCQ Option Shuffling : Yes
Correct Marks : 1 Wrong Marks : 0.25

Select the meaning of the given idiom.

To have a sweet tooth

Options :

1. ✔ Preference for sugary foods
2. ✖ To experience pain while eating
3. ✖ To be insincere
4. ✖ Lacking courage

Question Number : 150 Question Id : 54592721158 Question Type : MCQ Option Shuffling : Yes
Correct Marks : 1 Wrong Marks : 0.25

Select the meaning of the given idiom.

To have a sweet tooth

Options :

1. ✔ Preference for sugary foods

2. ✖ To experience pain while eating

3. ✖ To be insincere

4. ✖ Lacking courage

Question Number : 151 Question Id : 54592721159 Question Type : MCQ Option Shuffling : Yes
Correct Marks : 1 Wrong Marks : 0.25

Select the meaning of the given idiom.

Spill the beans

Options :

1. ✖ Waste money

2. ✔ To reveal a secret

3. ✖ To be idle

4. ✖ Lacking in support

Question Number : 151 Question Id : 54592721159 Question Type : MCQ Option Shuffling : Yes
Correct Marks : 1 Wrong Marks : 0.25

Select the meaning of the given idiom.

Spill the beans

Options :

1. ✖ Waste money

2. ✔ To reveal a secret

3. ✖ To be idle

4. ✖ Lacking in support

Question Number : 152 Question Id : 54592721160 Question Type : MCQ Option Shuffling : Yes
Correct Marks : 1 Wrong Marks : 0.25

Select the meaning of the given idiom.

Call it a day

Options :

1. ✖ To postpone
2. ✖ Be unfair
3. ✔ To stop working
4. ✖ Take a chance

Question Number : 152 Question Id : 54592721160 Question Type : MCQ Option Shuffling : Yes

Correct Marks : 1 Wrong Marks : 0.25

Select the meaning of the given idiom.

Call it a day

Options :

1. ✖ To postpone
2. ✖ Be unfair
3. ✔ To stop working
4. ✖ Take a chance

Question Number : 153 Question Id : 54592721161 Question Type : MCQ Option Shuffling : Yes

Correct Marks : 1 Wrong Marks : 0.25

Select the word which means the same as the group of words given.

Impossible to satisfy

Options :

1. ✔ Insatiable
2. ✖ Vulnerable

3. ✖ Opaque

4. ✖ Potable

Question Number : 153 Question Id : 54592721161 Question Type : MCQ Option Shuffling : Yes

Correct Marks : 1 Wrong Marks : 0.25

Select the word which means the same as the group of words given.

Impossible to satisfy

Options :

1. ✔ Insatiable

2. ✖ Vulnerable

3. ✖ Opaque

4. ✖ Potable

Question Number : 154 Question Id : 54592721162 Question Type : MCQ Option Shuffling : Yes

Correct Marks : 1 Wrong Marks : 0.25

Select the word which means the same as the group of words given.

A person or thing living or existing at the same time as another.

Options :

1. ✖ Cynic

2. ✔ Contemporary

3. ✖ Fanatic

4. ✖ Predator

Question Number : 154 Question Id : 54592721162 Question Type : MCQ Option Shuffling : Yes

Correct Marks : 1 Wrong Marks : 0.25

Select the word which means the same as the group of words given.

A person or thing living or existing at the same time as another.

Options :

1. ✘ Cynic
2. ✔ Contemporary
3. ✘ Fanatic
4. ✘ Predator

Question Number : 155 Question Id : 54592721163 Question Type : MCQ Option Shuffling : Yes

Correct Marks : 1 Wrong Marks : 0.25

Select the word which means the same as the group of words given.

A child born after the death of its father

Options :

1. ✘ Notorious
2. ✘ Theist
3. ✔ Posthumous
4. ✘ Pedestrian

Question Number : 155 Question Id : 54592721163 Question Type : MCQ Option Shuffling : Yes

Correct Marks : 1 Wrong Marks : 0.25

Select the word which means the same as the group of words given.

A child born after the death of its father

Options :

1. ✘ Notorious
2. ✘ Theist
3. ✔ Posthumous
4. ✘ Pedestrian

Sub-Section Number:	2
Sub-Section Id:	5459271257
Question Shuffling Allowed :	Yes

Question Id : 54592721164 Question Type : COMPREHENSION Sub Question Shuffling Allowed : Yes Group Comprehension Questions : No

Question Numbers : (156 to 160)

Question Label : Comprehension

Read the given passage and answer the questions that follow.

Technology has impacted almost every aspect of life today, and education is no exception. Or is it? In some ways, education seems much the same as it has been for many years. A 14th century illustration by Laurentius de Voltolina depicts a university lecture in medieval Italy. The scene is easily recognizable because of its parallels to the modern day. The teacher lectures from a podium at the front of the room while the students sit in rows and listen. Some of the students have books open in front of them and appear to be following along. A few look bored. Some are talking to their neighbours. One appears to be sleeping. Classrooms today do not look much different, though you might find modern students looking at their laptops, tablets, or smart phones instead of books (though probably open to Facebook). A cynic would say that technology has done nothing to change education.

However, in many ways, technology has profoundly changed education. For one, technology has greatly expanded access to education. In medieval times, books were rare and only an elite few had access to educational opportunities. Individuals had to travel to centres of learning to get an education. Today, massive amounts of information (books, audio, images, videos) are available at one's fingertips through the Internet, and opportunities for formal learning are available online worldwide through the Khan Academy, MOOCs, podcasts, traditional online degree programs, and more. Access to learning opportunities today is unprecedented in scope thanks to technology.

Opportunities for communication and collaboration have also been expanded by technology. Traditionally, classrooms have been relatively isolated, and collaboration has been limited to other students in the same classroom or building. Today, technology enables forms of communication and collaboration undreamt of in the past. Students in a classroom in the rural U.S., for example, can learn about the Arctic by following the expedition of a team of scientists in the region, read scientists' blog posting, view photos, e-mail questions to the scientists, and even talk live with the scientists via a videoconference. Students can share what they are learning with students in other classrooms in other states who are tracking the same expedition. Students can collaborate on group projects using technology-based tools such as wikis and Google docs. The walls of the classrooms are no longer a barrier as technology enables new ways of learning, communicating, and working collaboratively.

Sub questions

Question Number : 156 Question Id : 54592721165 Question Type : MCQ Option Shuffling : Yes

Correct Marks : 1 Wrong Marks : 0.25

The given passage attempts to answer one of the following questions:

Options :

1. ✓ How has technology changed education?
2. ✘ Is technological changes a threat to education?
3. ✘ Is technology needed in the domain of education?
4. ✘ Is the education sector technologically dependent?

Question Number : 157 Question Id : 54592721166 Question Type : MCQ Option Shuffling : Yes

Correct Marks : 1 Wrong Marks : 0.25

According to the author, a cynic would say that technology has done nothing to change education because:

Options :

1. ✘ The classrooms today do not have any similarity with the classrooms in the past.
2. ✓ Classrooms today do not look much different from the way they were in the past.
3. ✘ The teaching fraternity doesn't welcome any changes in the education sector.
4. ✘ The classrooms today do not have any similarity with the classrooms in the past and The teaching fraternity doesn't welcome any changes in the education sector.

Question Number : 158 Question Id : 54592721167 Question Type : MCQ Option Shuffling : Yes

Correct Marks : 1 Wrong Marks : 0.25

Which of the following statements is not true in the context of the passage?

Options :

1. ✖ Massive amounts of information is available to individuals at their fingertips.
2. ✖ Access to learning opportunities has increased.
3. ✔ In medieval times too, many had access to educational opportunities.
4. ✖ Technology has expanded access to education.

Question Number : 159 Question Id : 54592721168 Question Type : MCQ Option Shuffling : Yes
Correct Marks : 1 Wrong Marks : 0.25

From among the given options, choose the option that is most similar in meaning to the word 'isolated' as used in the 3rd paragraph 2nd line of the passage:

Options :

1. ✖ Substituted
2. ✖ Unattended
3. ✖ Cherished
4. ✔ Detached

Question Number : 160 Question Id : 54592721169 Question Type : MCQ Option Shuffling : Yes
Correct Marks : 1 Wrong Marks : 0.25

Why does the author state that the walls of the classroom are no longer a barrier?

Options :

1. ✔ As technology has enabled new ways of learning, communicating, and working collaboratively.
2. ✖ Technology has changed the roles of teachers and learners.

3. * Students now take more responsibility for their own learning.

4. * Schools and universities across the country are beginning to redesign learning spaces to enable a new model of education.

Question Id : 54592721164 Question Type : COMPREHENSION Sub Question Shuffling Allowed : Yes Group Comprehension Questions : No

Question Numbers : (156 to 160)

Question Label : Comprehension

Read the given passage and answer the questions that follow.

Technology has impacted almost every aspect of life today, and education is no exception. Or is it? In some ways, education seems much the same as it has been for many years. A 14th century illustration by Laurentius de Voltolina depicts a university lecture in medieval Italy. The scene is easily recognizable because of its parallels to the modern day. The teacher lectures from a podium at the front of the room while the students sit in rows and listen. Some of the students have books open in front of them and appear to be following along. A few look bored. Some are talking to their neighbours. One appears to be sleeping. Classrooms today do not look much different, though you might find modern students looking at their laptops, tablets, or smart phones instead of books (though probably open to Facebook). A cynic would say that technology has done nothing to change education.

However, in many ways, technology has profoundly changed education. For one, technology has greatly expanded access to education. In medieval times, books were rare and only an elite few had access to educational opportunities. Individuals had to travel to centres of learning to get an education. Today, massive amounts of information (books, audio, images, videos) are available at one's fingertips through the Internet, and opportunities for formal learning are available online worldwide through the Khan Academy, MOOCs, podcasts, traditional online degree programs, and more. Access to learning opportunities today is unprecedented in scope thanks to technology.

Opportunities for communication and collaboration have also been expanded by technology. Traditionally, classrooms have been relatively isolated, and collaboration has been limited to other students in the same classroom or building. Today, technology enables forms of communication and collaboration undreamt of in the past. Students in a classroom in the rural U.S., for example, can learn about the Arctic by following the expedition of a team of scientists in the region, read scientists' blog posting, view photos, e-mail questions to the scientists, and even talk live with the scientists via a videoconference. Students can share what they are learning with students in other classrooms in other states who are tracking the same expedition. Students can collaborate on group projects using technology-based tools such as wikis and Google docs. The walls of the classrooms are no longer a barrier as technology enables new ways of learning, communicating, and working collaboratively.

Sub questions

Question Number : 156 Question Id : 54592721165 Question Type : MCQ Option Shuffling : Yes

Correct Marks : 1 Wrong Marks : 0.25

The given passage attempts to answer one of the following questions:

Options :

1. ✓ How has technology changed education?
2. ✗ Is technological changes a threat to education?
3. ✗ Is technology needed in the domain of education?
4. ✗ Is the education sector technologically dependent?

Question Number : 157 Question Id : 54592721166 Question Type : MCQ Option Shuffling : Yes

Correct Marks : 1 Wrong Marks : 0.25

According to the author, a cynic would say that technology has done nothing to change education because:

Options :

1. ✗ The classrooms today do not have any similarity with the classrooms in the past.
2. ✓ Classrooms today do not look much different from the way they were in the past.
3. ✗ The teaching fraternity doesn't welcome any changes in the education sector.

4. ✖ The classrooms today do not have any similarity with the classrooms in the past and The teaching fraternity doesn't welcome any changes in the education sector.

Question Number : 158 Question Id : 54592721167 Question Type : MCQ Option Shuffling : Yes

Correct Marks : 1 Wrong Marks : 0.25

Which of the following statements is not true in the context of the passage?

Options :

1. ✖ Massive amounts of information is available to individuals at their fingertips.
2. ✖ Access to learning opportunities has increased.
3. ✔ In medieval times too, many had access to educational opportunities.
4. ✖ Technology has expanded access to education.

Question Number : 159 Question Id : 54592721168 Question Type : MCQ Option Shuffling : Yes

Correct Marks : 1 Wrong Marks : 0.25

From among the given options, choose the option that is most similar in meaning to the word 'isolated' as used in the 3rd paragraph 2nd line of the passage:

Options :

1. ✖ Substituted
2. ✖ Unattended
3. ✖ Cherished
4. ✔ Detached

Why does the author state that the walls of the classroom are no longer a barrier?

Options :

1. ✓ As technology has enabled new ways of learning, communicating, and working collaboratively.
2. ✗ Technology has changed the roles of teachers and learners.
3. ✗ Students now take more responsibility for their own learning.
4. ✗ Schools and universities across the country are beginning to redesign learning spaces to enable a new model of education.

General Hindi1

Group Number :	9
Group Id :	5459271049
Group Maximum Duration :	0
Group Minimum Duration :	0
Show Attended Group? :	No
Edit Attended Group? :	No
Break time:	0
Group Marks:	20
Is this Group for Examiner?:	No
Revisit allowed for group Instructions? :	Yes
Maximum Instruction Time:	0
Minimum Instruction Time:	0

General Hindi1

Section Id :	5459271049
Section Number :	1
Section type :	Online
Mandatory or Optional:	Mandatory

Number of Questions:	20
Number of Questions to be attempted:	20
Section Marks:	20

Sub-Section Number:	1
Sub-Section Id:	5459271258
Question Shuffling Allowed :	Yes

Question Number : 161 Question Id : 54592721170 Question Type : MCQ Option Shuffling : Yes
Correct Marks : 1 Wrong Marks : 0.25

निम्नलिखित शब्दों में से तद्भव शब्द का चयन कीजिए।

Options :

1. * ग्राम
2. ✓ आग
3. * कर्ण
4. * चन्द्र

Question Number : 161 Question Id : 54592721170 Question Type : MCQ Option Shuffling : Yes
Correct Marks : 1 Wrong Marks : 0.25

निम्नलिखित शब्दों में से तद्भव शब्द का चयन कीजिए।

Options :

1. * ग्राम
2. ✓ आग
3. * कर्ण
4. * चन्द्र

Question Number : 162 Question Id : 54592721171 Question Type : MCQ Option Shuffling : Yes
Correct Marks : 1 Wrong Marks : 0.25

शब्द 'समानाधिकार' का सन्धि विच्छेद क्या होगा?

Options :

1. ✓ समान + अधिकार
2. * समाधि + कार
3. * सम् + मानअधिकार
4. * सम+ अधिकार

Question Number : 162 Question Id : 54592721171 Question Type : MCQ Option Shuffling : Yes

Correct Marks : 1 Wrong Marks : 0.25

शब्द 'समानाधिकार' का सन्धि विच्छेद क्या होगा?

Options :

1. ✓ समान + अधिकार
2. ✗ समाधि + कार
3. ✗ सम् + मानअधिकार
4. ✗ सम+ अधिकार

Question Number : 163 Question Id : 54592721172 Question Type : MCQ Option Shuffling : Yes

Correct Marks : 1 Wrong Marks : 0.25

निम्नलिखित शब्दों में से कौन-सा शब्द जातिवाचक संज्ञा को दर्शाता है।

Options :

1. ✗ तेल
2. ✗ बचपन
3. ✗ जर्सी गाय
4. ✓ नदी

Question Number : 163 Question Id : 54592721172 Question Type : MCQ Option Shuffling : Yes

Correct Marks : 1 Wrong Marks : 0.25

निम्नलिखित शब्दों में से कौन-सा शब्द जातिवाचक संज्ञा को दर्शाता है।

Options :

1. ✗ तेल
2. ✗ बचपन
3. ✗ जर्सी गाय
4. ✓ नदी

Question Number : 164 Question Id : 54592721173 Question Type : MCQ Option Shuffling : Yes

Correct Marks : 1 Wrong Marks : 0.25

निम्नलिखित वाक्यों में से किसमें पूर्वकालिक क्रिया नहीं है?

Options :

1. * वह विद्यालय जाता है।
2. ✓ वह लेटकर खाता है।
3. * वह खाना खाता है।
4. * दाल में घी डाल देना।

Question Number : 164 Question Id : 54592721173 Question Type : MCQ Option Shuffling : Yes
Correct Marks : 1 Wrong Marks : 0.25

निम्नलिखित वाक्यों में से किसमें पूर्वकालिक क्रिया नहीं है?

Options :

1. * वह विद्यालय जाता है।
2. ✓ वह लेटकर खाता है।
3. * वह खाना खाता है।
4. * दाल में घी डाल देना।

Question Number : 165 Question Id : 54592721174 Question Type : MCQ Option Shuffling : Yes
Correct Marks : 1 Wrong Marks : 0.25

उपसर्ग शब्द की व्युत्पत्ति है-

Options :

1. * उपर्स + ग
2. ✓ उप+सर्ग
3. * उ+पसर्ग
4. * उपस+र्ग

Question Number : 165 Question Id : 54592721174 Question Type : MCQ Option Shuffling : Yes
Correct Marks : 1 Wrong Marks : 0.25

उपसर्ग शब्द की व्युत्पत्ति है-

Options :

1. * उपर्स + ग
2. ✓ उप+सर्ग
3. * उ+पसर्ग

4. * उपस+र्ग

Question Number : 166 Question Id : 54592721175 Question Type : MCQ Option Shuffling : Yes
Correct Marks : 1 Wrong Marks : 0.25

हिमांशु का पर्यायवाची शब्द है-

Options :

1. * कलकंठ
2. ✓ कपीश्वर
3. * उत्कृष्ट
4. * रत्नाकार

Question Number : 166 Question Id : 54592721175 Question Type : MCQ Option Shuffling : Yes
Correct Marks : 1 Wrong Marks : 0.25

हिमांशु का पर्यायवाची शब्द है-

Options :

1. * कलकंठ
2. ✓ कपीश्वर
3. * उत्कृष्ट
4. * रत्नाकार

Question Number : 167 Question Id : 54592721176 Question Type : MCQ Option Shuffling : Yes
Correct Marks : 1 Wrong Marks : 0.25

निम्न में से 'अवनि' का विलोम शब्द क्या होगा ?

Options :

1. ✓ अंबर
2. * कोप
3. * मोक्ष
4. * शहर

Question Number : 167 Question Id : 54592721176 Question Type : MCQ Option Shuffling : Yes
Correct Marks : 1 Wrong Marks : 0.25

निम्न में से 'अवनि' का विलोम शब्द क्या होगा ?

Options :

1. ✓ अंबर

2. ✘ कोप

3. ✘ मोक्ष

4. ✘ शहर

Question Number : 168 Question Id : 54592721177 Question Type : MCQ Option Shuffling : Yes
Correct Marks : 1 Wrong Marks : 0.25

निम्न वाक्यांश के लिए एक शब्द का चयन कीजिए-
जिसे किसी का डर न हो -

Options :

1. ✘ निश्छल

2. ✓ निर्भीक

3. ✘ निर्लज्ज

4. ✘ निः शंक

Question Number : 168 Question Id : 54592721177 Question Type : MCQ Option Shuffling : Yes
Correct Marks : 1 Wrong Marks : 0.25

निम्न वाक्यांश के लिए एक शब्द का चयन कीजिए-
जिसे किसी का डर न हो -

Options :

1. ✘ निश्छल

2. ✓ निर्भीक

3. ✘ निर्लज्ज

4. ✘ निः शंक

Question Number : 169 Question Id : 54592721178 Question Type : MCQ Option Shuffling : Yes
Correct Marks : 1 Wrong Marks : 0.25

निम्न शब्दों में से शुद्ध शब्द का चयन कीजिए।

Options :

1. ✘ प्रचायि

2. * आर्शीवाद

3. ✓ असमर्थ

4. * स्वगीय

Question Number : 169 Question Id : 54592721178 Question Type : MCQ Option Shuffling : Yes
Correct Marks : 1 Wrong Marks : 0.25

निम्न शब्दों में से शुद्ध शब्द का चयन कीजिए।

Options :

1. * प्रर्चाय

2. * आर्शीवाद

3. ✓ असमर्थ

4. * स्वगीय

Question Number : 170 Question Id : 54592721179 Question Type : MCQ Option Shuffling : Yes
Correct Marks : 1 Wrong Marks : 0.25

जिस क्रिया का फल कर्ता पर न पड़कर कर्म पर पड़े, उसे _____ कहते हैं।

Options :

1. * काल

2. ✓ सकर्मक क्रिया

3. * अकर्मक क्रिया

4. * वाक्य

Question Number : 170 Question Id : 54592721179 Question Type : MCQ Option Shuffling : Yes
Correct Marks : 1 Wrong Marks : 0.25

जिस क्रिया का फल कर्ता पर न पड़कर कर्म पर पड़े, उसे _____ कहते हैं।

Options :

1. * काल

2. ✓ सकर्मक क्रिया

3. * अकर्मक क्रिया

4. * वाक्य

Question Number : 171 Question Id : 54592721180 Question Type : MCQ Option Shuffling : Yes
Correct Marks : 1 Wrong Marks : 0.25

‘पृच्छक’ का अर्थ है-

Options :

1. * इच्छा करने वाला
2. ✓ प्रश्न पूछने वाला
3. * प्रश्न बनाने वाला
4. * पृष्ठ देने वाला

Question Number : 171 Question Id : 54592721180 Question Type : MCQ Option Shuffling : Yes
Correct Marks : 1 Wrong Marks : 0.25

‘पृच्छक’ का अर्थ है-

Options :

1. * इच्छा करने वाला
2. ✓ प्रश्न पूछने वाला
3. * प्रश्न बनाने वाला
4. * पृष्ठ देने वाला

Question Number : 172 Question Id : 54592721181 Question Type : MCQ Option Shuffling : Yes
Correct Marks : 1 Wrong Marks : 0.25

निम्नलिखित शब्द-युग्म के सही अर्थ-भेद का चयन कीजिए-
‘अनिल-अनल’

Options :

1. * आग-हवा
2. * हवा-पानी
3. * जंगल-आग
4. ✓ हवा-आग

Question Number : 172 Question Id : 54592721181 Question Type : MCQ Option Shuffling : Yes
Correct Marks : 1 Wrong Marks : 0.25

निम्नलिखित शब्द-युग्म के सही अर्थ-भेद का चयन कीजिए-

‘अनिल-अनल’

Options :

1. * आग-हवा
2. * हवा-पानी
3. * जंगल-आग
4. ✓ हवा-आग

Question Number : 173 Question Id : 54592721182 Question Type : MCQ Option Shuffling : Yes

Correct Marks : 1 Wrong Marks : 0.25

निम्नलिखित प्रश्न में शुद्ध वर्तनी वाले शब्द का चयन कीजिए-

Options :

1. ✓ अमावस्या
2. * अमावश्या
3. * आमावस्या
4. * अमीवश्या

Question Number : 173 Question Id : 54592721182 Question Type : MCQ Option Shuffling : Yes

Correct Marks : 1 Wrong Marks : 0.25

निम्नलिखित प्रश्न में शुद्ध वर्तनी वाले शब्द का चयन कीजिए-

Options :

1. ✓ अमावस्या
2. * अमावश्या
3. * आमावस्या
4. * अमीवश्या

Question Number : 174 Question Id : 54592721183 Question Type : MCQ Option Shuffling : Yes

Correct Marks : 1 Wrong Marks : 0.25

निम्न वाक्यांश के लिए एक शब्द का चयन कीजिए-
मर्यादा का उल्लंघन करके किया हुआ-

Options :

1. * अत्वरा
2. * अनुरंजक
3. * अटारी
4. ✓ अतिकृत

Question Number : 174 Question Id : 54592721183 Question Type : MCQ Option Shuffling : Yes
Correct Marks : 1 Wrong Marks : 0.25

निम्न वाक्यांश के लिए एक शब्द का चयन कीजिए-
मर्यादा का उल्लंघन करके किया हुआ-

Options :

1. * अत्वरा
2. * अनुरंजक
3. * अटारी
4. ✓ अतिकृत

Question Number : 175 Question Id : 54592721184 Question Type : MCQ Option Shuffling : Yes
Correct Marks : 1 Wrong Marks : 0.25

सक्रिय व्यक्ति जीवन में नाम कमाता है, परन्तु _____ असफल हो जाता है।

Options :

1. * अकर्मण्य
2. * आलसी
3. ✓ निष्क्रिय
4. * कर्मठ

Question Number : 175 Question Id : 54592721184 Question Type : MCQ Option Shuffling : Yes
Correct Marks : 1 Wrong Marks : 0.25

सक्रिय व्यक्ति जीवन में नाम कमाता है, परन्तु _____ असफल हो जाता है।

Options :

1. * अकर्मण्य

2. ✖ आलसी

3. ✔ निष्क्रिय

4. ✖ कर्मठ

Question Number : 176 Question Id : 54592721185 Question Type : MCQ Option Shuffling : Yes
Correct Marks : 1 Wrong Marks : 0.25

निम्नलिखित में से किनके नाम प्रायः स्त्रीलिंग होते हैं?

Options :

1. ✔ बोलियों के नाम

2. ✖ पेड़ों के नाम

3. ✖ फलों के नाम

4. ✖ सागरों के नाम

Question Number : 176 Question Id : 54592721185 Question Type : MCQ Option Shuffling : Yes
Correct Marks : 1 Wrong Marks : 0.25

निम्नलिखित में से किनके नाम प्रायः स्त्रीलिंग होते हैं?

Options :

1. ✔ बोलियों के नाम

2. ✖ पेड़ों के नाम

3. ✖ फलों के नाम

4. ✖ सागरों के नाम

Question Number : 177 Question Id : 54592721186 Question Type : MCQ Option Shuffling : Yes
Correct Marks : 1 Wrong Marks : 0.25

किस वाक्य में वचन का सही प्रयोग हुआ है?

Options :

1. ✖ मेरी होश उड़ गई।

2. ✖ हमारे होश उड़ गई।

3. ✖ मैं होश उड़ गया।

4. ✔ मेरे होश उड़ गए।

Question Number : 177 Question Id : 54592721186 Question Type : MCQ Option Shuffling : Yes

Correct Marks : 1 Wrong Marks : 0.25

किस वाक्य में वचन का सही प्रयोग हुआ है?

Options :

1. * मेरी होश उड़ गई।
2. * हमारे होश उड़ गई।
3. * मैं होश उड़ गया।
4. ✓ मेरे होश उड़ गए।

Question Number : 178 Question Id : 54592721187 Question Type : MCQ Option Shuffling : Yes

Correct Marks : 1 Wrong Marks : 0.25

वाक्य में शब्द का सम्बंध किससे होता है?

Options :

1. * लिंग
2. * वचन
3. ✓ कारक
4. * भेद

Question Number : 178 Question Id : 54592721187 Question Type : MCQ Option Shuffling : Yes

Correct Marks : 1 Wrong Marks : 0.25

वाक्य में शब्द का सम्बंध किससे होता है?

Options :

1. * लिंग
2. * वचन
3. ✓ कारक
4. * भेद

Question Number : 179 Question Id : 54592721188 Question Type : MCQ Option Shuffling : Yes

Correct Marks : 1 Wrong Marks : 0.25

‘पूर्णवर्तमान काल’ को ही _____ कहा जाता है।

Options :

1. * सामान्य भूत

2. * सामान्य वर्तमान

3. ✓ आसन्न भूत

4. * भविष्य काल

Question Number : 179 Question Id : 54592721188 Question Type : MCQ Option Shuffling : Yes
Correct Marks : 1 Wrong Marks : 0.25

‘पूर्णवर्तमान काल’ को ही _____ कहा जाता है।

Options :

1. * सामान्य भूत

2. * सामान्य वर्तमान

3. ✓ आसन्न भूत

4. * भविष्य काल

Question Number : 180 Question Id : 54592721189 Question Type : MCQ Option Shuffling : Yes
Correct Marks : 1 Wrong Marks : 0.25

वाक्य ‘मुझसे बोझ उठाया नहीं जा सकता’ का कर्तृवाच्य क्या होगा?

Options :

1. * मेरे द्वारा बोझ नहीं उठाया जा सकता।

2. ✓ मैं बोझ नहीं उठा सकता।

3. * मुझसे बोझ उठाया नहीं जा सकता

4. * मैं बोझ नहीं उठाना चाहता।

Question Number : 180 Question Id : 54592721189 Question Type : MCQ Option Shuffling : Yes
Correct Marks : 1 Wrong Marks : 0.25

वाक्य ‘मुझसे बोझ उठाया नहीं जा सकता’ का कर्तृवाच्य क्या होगा?

Options :

1. * मेरे द्वारा बोझ नहीं उठाया जा सकता।

2. ✓ मैं बोझ नहीं उठा सकता।

3. * मुझसे बोझ उठाया नहीं जा सकता

4. * मैं बोझ नहीं उठाना चाहता।

General Hindi2

Group Number :	10
Group Id :	5459271050
Group Maximum Duration :	0
Group Minimum Duration :	120
Show Attended Group? :	No
Edit Attended Group? :	No
Break time:	0
Group Marks:	20
Is this Group for Examiner?:	No
Revisit allowed for group Instructions? :	Yes
Maximum Instruction Time:	0
Minimum Instruction Time:	0

General Hindi2

Section Id :	5459271050
Section Number :	1
Section type :	Online
Mandatory or Optional:	Mandatory
Number of Questions:	16
Number of Questions to be attempted:	16
Section Marks:	20

Sub-Section Number:	1
Sub-Section Id:	5459271259
Question Shuffling Allowed :	Yes

Question Number : 181 Question Id : 54592721190 Question Type : MCQ Option Shuffling : Yes
Correct Marks : 1 Wrong Marks : 0.25

वह हार गया परन्तु यह आश्चर्य है – यह वाक्य है।

Options :

1. * मिश्र वाक्य
2. * सरल वाक्य
3. ✓ संयुक्त वाक्य
4. * प्रश्नवाचक वाक्य

Question Number : 181 Question Id : 54592721190 Question Type : MCQ Option Shuffling : Yes
Correct Marks : 1 Wrong Marks : 0.25

वह हार गया परन्तु यह आश्चर्य है - यह वाक्य है।

Options :

1. * मिश्र वाक्य
2. * सरल वाक्य
3. ✓ संयुक्त वाक्य
4. * प्रश्नवाचक वाक्य

Question Number : 182 Question Id : 54592721191 Question Type : MCQ Option Shuffling : Yes
Correct Marks : 1 Wrong Marks : 0.25

दिए गए चार विकल्पों में से शुद्ध वाक्य का चयन करें-

Options :

1. * वह सकुशलपूर्वक रह रहा है।
2. * सोनी कल के दिल जाने वाली है।
3. * आपके पिताजी ने बोले थे।
4. ✓ यह खबर सुनते ही उनके होश उड़ गए।

Question Number : 182 Question Id : 54592721191 Question Type : MCQ Option Shuffling : Yes
Correct Marks : 1 Wrong Marks : 0.25

दिए गए चार विकल्पों में से शुद्ध वाक्य का चयन करें-

Options :

1. * वह सकुशलपूर्वक रह रहा है।
2. * सोनी कल के दिल जाने वाली है।
3. * आपके पिताजी ने बोले थे।
4. ✓ यह खबर सुनते ही उनके होश उड़ गए।

Question Number : 183 Question Id : 54592721192 Question Type : MCQ Option Shuffling : Yes
Correct Marks : 1 Wrong Marks : 0.25

निर्देश: नीचे दिये गये प्रश्न को चार भागो मे बाँटा गया है (A), (B), (C) और (D) क्रमांक दिए गए है। आपको यह देखना है कि वाक्य के किस भाग में व्याकरण, भाषा, वर्तनी, शब्दों के गलत प्रयोग या इसी तरह की कोई त्रुटि तो नहीं है। यदि त्रुटि होगी तो वाक्य के किसी एक भाग में ही होगी। उस भाग का क्रमांक ही आपका उत्तर है।

वनों की एक बहुत बड़ी उपयोगिता यह भी है कि (A) उनके वातावरण में (B) आवश्यक आद्रता बनी रहती है (C) कोई त्रुटि नहीं है। (D)

Options :

1. ✖ A
2. ✔ B
3. ✖ C
4. ✖ D

Question Number : 183 Question Id : 54592721192 Question Type : MCQ Option Shuffling : Yes

Correct Marks : 1 Wrong Marks : 0.25

निर्देश: नीचे दिये गये प्रश्न को चार भागो मे बाँटा गया है (A), (B), (C) और (D) क्रमांक दिए गए है। आपको यह देखना है कि वाक्य के किस भाग में व्याकरण, भाषा, वर्तनी, शब्दों के गलत प्रयोग या इसी तरह की कोई त्रुटि तो नहीं है। यदि त्रुटि होगी तो वाक्य के किसी एक भाग में ही होगी। उस भाग का क्रमांक ही आपका उत्तर है।

वनों की एक बहुत बड़ी उपयोगिता यह भी है कि (A) उनके वातावरण में (B) आवश्यक आद्रता बनी रहती है (C) कोई त्रुटि नहीं है। (D)

Options :

1. ✖ A
2. ✔ B
3. ✖ C
4. ✖ D

Question Number : 184 Question Id : 54592721193 Question Type : MCQ Option Shuffling : Yes

Correct Marks : 1 Wrong Marks : 0.25

_____ वह है, जिसमें सर्वनाम का प्रयोग उसके लिए हो जिसके विषय में कुछ कहा जाता है।

Options :

1. * उत्तमपुरुष
2. * मध्यमपुरुष
3. ✓ अन्यपुरुष
4. * अवतरणपुरुष

Question Number : 184 Question Id : 54592721193 Question Type : MCQ Option Shuffling : Yes

Correct Marks : 1 Wrong Marks : 0.25

_____ वह है, जिसमें सर्वनाम का प्रयोग उसके लिए हो जिसके विषय में कुछ कहा जाता है।

Options :

1. * उत्तमपुरुष
2. * मध्यमपुरुष
3. ✓ अन्यपुरुष
4. * अवतरणपुरुष

Question Number : 185 Question Id : 54592721194 Question Type : MCQ Option Shuffling : Yes

Correct Marks : 1 Wrong Marks : 0.25

राकेश आया होगा – यह वाक्य है।

Options :

1. * बिस्मयवाचक
2. * इच्छावाचक
3. ✓ संदेहवाचक
4. * संकेतवाचक

Question Number : 185 Question Id : 54592721194 Question Type : MCQ Option Shuffling : Yes

Correct Marks : 1 Wrong Marks : 0.25

राकेश आया होगा - यह वाक्य है।

Options :

1. * बिस्मयवाचक
2. * इच्छावाचक
3. ✓ संदेहवाचक
4. * संकेतवाचक

Question Number : 186 Question Id : 54592721195 Question Type : MCQ Option Shuffling : Yes
Correct Marks : 1 Wrong Marks : 0.25

मुझे शब्द किस प्रकार का सर्वनाम है?

Options :

1. ✓ उत्तमपुरुष
2. * मध्यमपुरुष
3. * अन्यपुरुष
4. * कृतवाच्यपुरुष

Question Number : 186 Question Id : 54592721195 Question Type : MCQ Option Shuffling : Yes
Correct Marks : 1 Wrong Marks : 0.25

मुझे शब्द किस प्रकार का सर्वनाम है?

Options :

1. ✓ उत्तमपुरुष
2. * मध्यमपुरुष
3. * अन्यपुरुष
4. * कृतवाच्यपुरुष

Question Number : 187 Question Id : 54592721196 Question Type : MCQ Option Shuffling : Yes
Correct Marks : 1 Wrong Marks : 0.25

“चिड़िया आकाश में उड़ रही है।” इस वाक्य में ‘उड़ रही’ क्रिया किस प्रकार की है?

Options :

1. ✓ अकर्मक
2. * सकर्मक
3. * समापिका

4. * असमापिका

Question Number : 187 Question Id : 54592721196 Question Type : MCQ Option Shuffling : Yes
Correct Marks : 1 Wrong Marks : 0.25

“चिडिऱ्या आकाश में उड़ रही हैं।” इस वाक्य में ‘उड़ रही’ क्रिया किस प्रकार की है?

Options :

1. ✓ अकर्मक
2. * सकर्मक
3. * समापिका
4. * असमापिका

Question Number : 188 Question Id : 54592721197 Question Type : MCQ Option Shuffling : Yes
Correct Marks : 1 Wrong Marks : 0.25

जहाँ पूर्ण विराम की अपेक्षा कम रूकना अपेक्षित हो, वहाँ _____ चिह्न का प्रयोग किया जाता है।

Options :

1. ✓ अर्द्धविराम
2. * पूर्णविराम
3. * संक्षेप चिह्न
4. * कोष्ठक

Question Number : 188 Question Id : 54592721197 Question Type : MCQ Option Shuffling : Yes
Correct Marks : 1 Wrong Marks : 0.25

जहाँ पूर्ण विराम की अपेक्षा कम रूकना अपेक्षित हो, वहाँ _____ चिह्न का प्रयोग किया जाता है।

Options :

1. ✓ अर्द्धविराम
2. * पूर्णविराम
3. * संक्षेप चिह्न

4. * कोष्ठक

Question Number : 189 Question Id : 54592721198 Question Type : MCQ Option Shuffling : Yes

Correct Marks : 1 Wrong Marks : 0.25

“आसमान पर थूकना” मुहावरा का अर्थ क्या है?

Options :

1. ✓ महापुरुषों का निरादर करना
2. * जगह छोड़ना
3. * दिखावटी रूदन
4. * संकट में पड़ना

Question Number : 189 Question Id : 54592721198 Question Type : MCQ Option Shuffling : Yes

Correct Marks : 1 Wrong Marks : 0.25

“आसमान पर थूकना” मुहावरा का अर्थ क्या है?

Options :

1. ✓ महापुरुषों का निरादर करना
2. * जगह छोड़ना
3. * दिखावटी रूदन
4. * संकट में पड़ना

Question Number : 190 Question Id : 54592721199 Question Type : MCQ Option Shuffling : Yes

Correct Marks : 1 Wrong Marks : 0.25

पूर्ण विराम के बाद सर्वाधिक प्रयुक्त होने वाला विराम-चिह्न _____ है।

Options :

1. * विस्मयादिबोधक
2. * प्रश्नवाचक
3. ✓ अल्पविराम
4. * अर्द्धविराम

Question Number : 190 Question Id : 54592721199 Question Type : MCQ Option Shuffling : Yes

Correct Marks : 1 Wrong Marks : 0.25

पूर्ण विराम के बाद सर्वाधिक प्रयुक्त होने वाला विराम-चिह्न _____ है।

Options :

1. * विस्मयादिबोधक
2. * प्रश्नवाचक
3. ✓ अल्पविराम
4. * अर्द्धविराम

Question Number : 191 Question Id : 54592721200 Question Type : MCQ Option Shuffling : Yes
Correct Marks : 1 Wrong Marks : 0.25

‘ईश्वर की माया कहीं धूप-कहीं छाया’ लोकोक्ति का अर्थ क्या है?

Options :

1. * घोर कष्ट देना
2. ✓ व्यक्ति के अनुसार आवभगत
3. * पैसा पास न होना
4. * विपत्ति या बुरा समय आना

Question Number : 191 Question Id : 54592721200 Question Type : MCQ Option Shuffling : Yes
Correct Marks : 1 Wrong Marks : 0.25

‘ईश्वर की माया कहीं धूप-कहीं छाया’ लोकोक्ति का अर्थ क्या है?

Options :

1. * घोर कष्ट देना
2. ✓ व्यक्ति के अनुसार आवभगत
3. * पैसा पास न होना
4. * विपत्ति या बुरा समय आना

Question Number : 192 Question Id : 54592721201 Question Type : MCQ Option Shuffling : Yes
Correct Marks : 1 Wrong Marks : 0.25

जब दो संयुक्त क्रियाएँ एक साथ प्रयुक्त हों तो कौन-सा चिन्ह लगाया जाता है?

Options :

1. * अल्पविराम

2. ✓ योजक

3. * पूर्व विराम

4. * प्रश्नवाचक

Question Number : 192 Question Id : 54592721201 Question Type : MCQ Option Shuffling : Yes
Correct Marks : 1 Wrong Marks : 0.25

जब दो संयुक्त क्रियाएँ एक साथ प्रयुक्त हों तो कौन-सा चिन्ह लगाया जाता है?

Options :

1. * अल्पविराम

2. ✓ योजक

3. * पूर्व विराम

4. * प्रश्नवाचक

Question Number : 193 Question Id : 54592721202 Question Type : MCQ Option Shuffling : Yes
Correct Marks : 1 Wrong Marks : 0.25

‘दाना-पानी उठना’ मुहावरा का अर्थ क्या है?

Options :

1. * गोद में लेना

2. * बहुत अपव्यय करना

3. * मूर्ख बनाकर धोखा देना

4. ✓ जगह छोड़ना

Question Number : 193 Question Id : 54592721202 Question Type : MCQ Option Shuffling : Yes
Correct Marks : 1 Wrong Marks : 0.25

‘दाना-पानी उठना’ मुहावरा का अर्थ क्या है?

Options :

1. * गोद में लेना

2. * बहुत अपव्यय करना

3. * मूर्ख बनाकर धोखा देना

4. ✓ जगह छोड़ना

Question Number : 194 Question Id : 54592721203 Question Type : MCQ Option Shuffling : Yes
Correct Marks : 1 Wrong Marks : 0.25

समुच्चयबोधक अव्यय के लोप होने पर प्रयुक्त होता है:

Options :

1. * पूर्व विराम
2. ✓ अल्पविराम
3. * अर्द्धविराम
4. * अविराम

Question Number : 194 Question Id : 54592721203 Question Type : MCQ Option Shuffling : Yes
Correct Marks : 1 Wrong Marks : 0.25

समुच्चयबोधक अव्यय के लोप होने पर प्रयुक्त होता है:

Options :

1. * पूर्व विराम
2. ✓ अल्पविराम
3. * अर्द्धविराम
4. * अविराम

Question Number : 195 Question Id : 54592721204 Question Type : MCQ Option Shuffling : Yes
Correct Marks : 1 Wrong Marks : 0.25

‘काबुल में क्या गधे नहीं होते’ लोकोक्ति का अर्थ क्या है?

Options :

1. * काबुल में गधे नहीं पाये जाते है।
2. * धोखे का व्यापार बार-बार नहीं होता है।
3. ✓ अच्छे-बुरे सभी जगह होते हैं।
4. * प्रसिद्ध तो ज्यादा:परन्तु योग्यता कुछ नहीं

Question Number : 195 Question Id : 54592721204 Question Type : MCQ Option Shuffling : Yes
Correct Marks : 1 Wrong Marks : 0.25

‘काबुल में क्या गधे नहीं होते’ लोकोक्ति का अर्थ क्या है?

Options :

1. * काबुल में गधे नहीं पाये जाते हैं।
2. * धोखे का व्यापार बार-बार नहीं होता है।
3. ✓ अच्छे-बुरे सभी जगह होते हैं।
4. * प्रसिद्ध तो ज्यादा:परन्तु योग्यता कुछ नहीं

Sub-Section Number: 2
Sub-Section Id: 5459271260
Question Shuffling Allowed : Yes

Question Id : 54592721205 Question Type : COMPREHENSION Sub Question Shuffling Allowed : Yes Group Comprehension Questions : No

Question Numbers : (196 to 200)

Question Label : Comprehension

निर्देश: नीचे दिये गये अपठित गद्यांश को पढ़िए और प्रश्न के उत्तर दीजिए।
कवि के सम्बंध में यह कथन अक्षरशः सत्य प्रतीत होता है कि कवि प्रकृति का पुरोहित होता है। जिस प्रकार पुरोहित अपने यजमान के समस्त कुलाचारों एवं रीति-परम्पराओं से अभिज्ञ होता है, उसी प्रकार कवि को प्रकृति के समस्त रहस्यों एवं क्रिया प्रक्रियाओं का मर्मज्ञ होना चाहिए। इसके बिना कवि को 'कवि' की संज्ञा से विभूषित करना भी उचित प्रतीत नहीं होता। कवि ही अपनी सूक्ष्म निरीक्षण शक्ति द्वारा प्रकृति के प्रांगण में ऐसे तथ्यों एवं पदार्थों को देख लेता है, जहाँ सामान्य व्यक्तियों की दृष्टि नहीं जाती, और यदि जाती भी है तो तत्त्व तक नहीं पहुँचती। तह तक पहुँचे बिना कोई ऐसी बात नहीं निकलती, जो साधारण होने पर भी असाधारण हो, लौकिक होने पर भी, अलौकिक आनन्दोत्पादक हो, सबकी देखी होने पर भी, नवीन चमत्कार दिखाने वाली हो, प्रकृति के गुप्त एवं मुक्त रहस्यों को सर्वसाधारण के दृष्टिपथ में लाना कवि का काम है। अज्ञेय की मीमांसा करते रहना, आकाश-कुसुमों की सृष्टि करना या आकाश के तारे तोड़ना कवि का काम नहीं है। यह दार्शनिक का काम है, कवि का काम इससे भी गहन है। व्याकरण एवं पिंगल के नियमानुसार वर्णों की नपी-तुली पद्य रचना का नाम भी कवित्व नहीं है, जैसा कि प्रायः समझा जाता है। सूक्ष्म दृष्टि से प्रकृति पर्यवेक्षण की असाधारण शक्ति के साथ-साथ कवि के पास जीवनानुभवों का अक्षय कोष होना चाहिए तथा उसे विविध कलाओं एवं शास्त्रों का भी ज्ञान होना चाहिए।

Sub questions

Question Number : 196 Question Id : 54592721206 Question Type : MCQ Option Shuffling : Yes
Correct Marks : 1 Wrong Marks : 0.25

उपर्युक्त गद्यांश का सर्वाधिक उपर्युक्त शीर्षक हो सकता है:

Options :

1. * कविता
2. * प्रकृति
3. * कवि
4. ✓ प्रकृति का पुरोधः कवि

Question Number : 197 Question Id : 54592721207 Question Type : MCQ Option Shuffling : Yes
Correct Marks : 1 Wrong Marks : 0.25

उपर्युक्त गद्यांश के अनुसार सूक्ष्म दृष्टि से प्रकृति पर्यवेक्षण की असाधारण शक्ति के साथ-साथ कवि के पास क्या होना चाहिए?

Options :

1. * जीवनानुभवों का अक्षय कोष होना चाहिए।
2. * उसे विविध कलाओं एवं शास्त्रों का भी ज्ञाता होना चाहिए।
3. * दार्शनिक होना चाहिए।
4. ✓ जीवनानुभवों का अक्षय कोष होना चाहिए और उसे विविध कलाओं एवं शास्त्रों का भी ज्ञाता होना चाहिए।

Question Number : 198 Question Id : 54592721208 Question Type : MCQ Option Shuffling : Yes
Correct Marks : 1 Wrong Marks : 0.25

‘कवि’ संज्ञा तभी सार्थकता पा सकती है जब कवि:

Options :

1. * आकाश-कुसुमों की सृष्टि नहीं करता है
2. * अब्दुत कल्पना- शक्ति का परिचय देता है
3. ✓ सर्वसाधारण को प्रकृति के रहस्यों से अवगत कराता है
4. * दार्शनिक की सी गम्भीर एवं मननशील दृष्टि रखता है

Question Number : 199 Question Id : 54592721209 Question Type : MCQ Option Shuffling : Yes
Correct Marks : 1 Wrong Marks : 0.25

दार्शनिक का प्रमुख कार्य है:

Options :

1. ✓ परोक्ष की मीमांसा

2. * ज्ञेय की मीमांसा
3. * अपरोक्ष की मीमांसा
4. * मौलिक साहित्य सर्जना

Question Number : 200 Question Id : 54592721210 Question Type : MCQ Option Shuffling : Yes
Correct Marks : 1 Wrong Marks : 0.25

कवि को प्रकृति का पुरोध कहा गया है क्योंकि वह प्राकृतिक:

Options :

1. * सौन्दर्य का चितेरा होता है
2. ✓ रहस्यों से अभिज्ञ होता है
3. * कुलाचारो का विशेषज्ञ होता है
4. * परम्पराओं से अभिज्ञ होता है

Question Id : 54592721205 Question Type : COMPREHENSION Sub Question Shuffling Allowed : Yes Group Comprehension
Questions : No

Question Numbers : (196 to 200)

Question Label : Comprehension

निर्देश: नीचे दिये गये अपठित गद्यांश को पढ़िए और प्रश्न के उत्तर दीजिए।

कवि के सम्बंध में यह कथन अक्षरशः सत्य प्रतीत होता है कि कवि प्रकृति का पुरोहित होता है। जिस प्रकार पुरोहित अपने यजमान के समस्त कुलाचारों एवं रीति-परम्पराओं से अभिज्ञ होता है, उसी प्रकार कवि को प्रकृति के समस्त रहस्यों एवं क्रिया प्रक्रियाओं का मर्मज्ञ होना चाहिए। इसके बिना कवि को 'कवि' की संज्ञा से विभूषित करना भी उचित प्रतीत नहीं होता। कवि ही अपनी सूक्ष्म निरीक्षण शक्ति द्वारा प्रकृति के प्रांगण में ऐसे तथ्यों एवं पदार्थों को देख लेता है, जहाँ सामान्य व्यक्तियों की दृष्टि नहीं जाती, और यदि जाती भी है तो तत्व तक नहीं पहुँचती। तह तक पहुँचे बिना कोई ऐसी बात नहीं निकलती, जो साधारण होने पर भी असाधारण हो, लौकिक होने पर भी, अलौकिक आनन्दोत्पादक हो, सबकी देखी होने पर भी, नवीन चमत्कार दिखाने वाली हो, प्रकृति के गुप्त एवं मुक्त रहस्यों को सर्वसाधारण के दृष्टिपथ में लाना कवि का काम है। अज्ञेय की मीमांसा करते रहना, आकाश-कुसुमों की सृष्टि करना या आकाश के तारे तोड़ना कवि का काम नहीं है। यह दार्शनिक का काम है, कवि का काम इससे भी गहन है। व्याकरण एवं पिंगल के नियमानुसार वर्णों की नपी-तुली पद्य रचना का नाम भी कवित्व नहीं है, जैसा कि प्रायः समझा जाता है। सूक्ष्म दृष्टि से प्रकृति पर्यवेक्षण की असाधारण शक्ति के साथ-साथ कवि के पास जीवनानुभवों का अक्षय कोष होना चाहिए तथा उसे विविध कलाओं एवं शास्त्रों का भी ज्ञाता होना चाहिए।

Sub questions

Question Number : 196 Question Id : 54592721206 Question Type : MCQ Option Shuffling : Yes
Correct Marks : 1 Wrong Marks : 0.25

उपर्युक्त गद्यांश का सर्वाधिक उपर्युक्त शीर्षक हो सकता है:

Options :

1. ✖ कविता
2. ✖ प्रकृति
3. ✖ कवि
4. ✔ प्रकृति का पुरोधा: कवि

Question Number : 197 Question Id : 54592721207 Question Type : MCQ Option Shuffling : Yes

Correct Marks : 1 Wrong Marks : 0.25

उपर्युक्त गद्यांश के अनुसार सूक्ष्म दृष्टि से प्रकृति पर्यवेक्षण की असाधारण शक्ति के साथ-साथ कवि के पास क्या होना चाहिए?

Options :

1. ✖ जीवनानुभवों का अक्षय कोष होना चाहिए।
2. ✖ उसे विविध कलाओं एवं शास्त्रों का भी ज्ञाता होना चाहिए।
3. ✖ दार्शनिक होना चाहिए।
4. ✔ जीवनानुभवों का अक्षय कोष होना चाहिए और उसे विविध कलाओं एवं शास्त्रों का भी ज्ञाता होना चाहिए।

Question Number : 198 Question Id : 54592721208 Question Type : MCQ Option Shuffling : Yes

Correct Marks : 1 Wrong Marks : 0.25

‘कवि’ संज्ञा तभी सार्थकता पा सकती है जब कवि:

Options :

1. ✖ आकाश-कुसुमों की सृष्टि नहीं करता है
2. ✖ अद्भुत कल्पना- शक्ति का परिचय देता है
3. ✔ सर्वसाधारण को प्रकृति के रहस्यों से अवगत कराता है
4. ✖ दार्शनिक की सी गम्भीर एवं मननशील दृष्टि रखता है

Question Number : 199 Question Id : 54592721209 Question Type : MCQ Option Shuffling : Yes

Correct Marks : 1 Wrong Marks : 0.25

दार्शनिक का प्रमुख कार्य है:

Options :

1. ✓ परोक्ष की मीमांसा
2. ✖ ज्ञेय की मीमांसा
3. ✖ अपरोक्ष की मीमांसा
4. ✖ मौलिक साहित्य सर्जना

Question Number : 200 Question Id : 54592721210 Question Type : MCQ Option Shuffling : Yes

Correct Marks : 1 Wrong Marks : 0.25

कवि को प्रकृति का पुरोध्या कहा गया है क्योंकि वह प्राकृतिकः

Options :

1. ✖ सौन्दर्य का चितेरा होता है
2. ✓ रहस्यों से अभिज्ञ होता है
3. ✖ कुलाचारो का विशेषज्ञ होता है
4. ✖ परम्पराओं से अभिज्ञ होता है