

Education Consultant India Ltd.

Notations :

1.Options shown in **green** color and with ✓ icon are correct.

2.Options shown in **red** color and with ✖ icon are incorrect.

Question Paper Name:	Grade IV DASS Junior Assistant 06th September 2019 Shift 2
Subject Name:	GRADE IV DASS JUNIOR ASSISTANT
Creation Date:	2019-09-06 15:19:16
Duration:	120
Total Marks:	200
Display Marks:	Yes
Share Answer Key With Delivery Engine:	No
Actual Answer Key:	Yes
Calculator:	None
Magnifying Glass Required?:	No
Ruler Required?:	No
Eraser Required?:	No
Scratch Pad Required?:	No
Rough Sketch/Notepad Required?:	No
Protractor Required?:	No
Show Watermark on Console?:	Yes
Highlighter:	No
Auto Save on Console?:	No

Mental Ability1

Group Number :	1
Group Id :	5459271491
Group Maximum Duration :	0
Group Minimum Duration :	0
Show Attended Group? :	No
Edit Attended Group? :	No
Break time:	0
Group Marks:	20
Is this Group for Examiner?:	No
Revisit allowed for group Instructions? :	Yes
Maximum Instruction Time:	0
Minimum Instruction Time:	0

Mental Ability1

Section Id :	5459271491
Section Number :	1

Section type :	Online
Mandatory or Optional:	Mandatory
Number of Questions:	20
Number of Questions to be attempted:	20
Section Marks:	20

Sub-Section Number:	1
Sub-Section Id:	5459271789
Question Shuffling Allowed :	Yes

Question Number : 1 Question Id : 54592730099 Question Type : MCQ Option Shuffling : Yes
Correct Marks : 1 Wrong Marks : 0.25

From the given responses, find the missing letter in the series.

S P L G ?

Options :

1. ✘ R
2. ✘ S
3. ✘ U
4. ✔ A

Question Number : 1 Question Id : 54592730099 Question Type : MCQ Option Shuffling : Yes
Correct Marks : 1 Wrong Marks : 0.25

दिए गए विकल्पों में से श्रेणी में लुप्त अक्षर को ज्ञात करें।

S P L G ?

Options :

1. ✘ R
2. ✘ S
3. ✘ U
4. ✔ A

Question Number : 2 Question Id : 54592730100 Question Type : MCQ Option Shuffling : Yes
Correct Marks : 1 Wrong Marks : 0.25

Find out the next term.

I11M , O17S, U23Y, ?

Options :

1. ✖ F8J
2. ✖ H10K
3. ✖ B3F
4. ✔ A3E

Question Number : 2 Question Id : 54592730100 Question Type : MCQ Option Shuffling : Yes
Correct Marks : 1 Wrong Marks : 0.25

अगला पद ज्ञात करें।

I11M , O17S, U23Y, ?

Options :

1. ✖ F8J
2. ✖ H10K
3. ✖ B3F
4. ✔ A3E

Question Number : 3 Question Id : 54592730101 Question Type : MCQ Option Shuffling : Yes
Correct Marks : 1 Wrong Marks : 0.25

Find the wrong term in the series.

19K, 21C, 14E, 24F

Options :

1. ✔ 19K
2. ✖ 21C
3. ✖ 14E

4. * 24F

Question Number : 3 Question Id : 54592730101 Question Type : MCQ Option Shuffling : Yes
Correct Marks : 1 Wrong Marks : 0.25

श्रृंखला में गलत पद ज्ञात करें।

19K, 21C, 14E, 24F

Options :

1. ✓ 19K

2. * 21C

3. * 14E

4. * 24F

Question Number : 4 Question Id : 54592730102 Question Type : MCQ Option Shuffling : Yes
Correct Marks : 1 Wrong Marks : 0.25

Find the odd one out from the given alternatives.

Options :

1. * Aizawl

2. * Kohima

3. ✓ Cherrapunjee

4. * Dispur

Question Number : 4 Question Id : 54592730102 Question Type : MCQ Option Shuffling : Yes
Correct Marks : 1 Wrong Marks : 0.25

दिए गए विकल्पों में से विषम ज्ञात करें।

Options :

1. * आइजोल

2. * कोहिमा

3. ✓ चैरापूंजी

4. * दिसपुर

Question Number : 5 Question Id : 54592730103 Question Type : MCQ Option Shuffling : Yes

Correct Marks : 1 Wrong Marks : 0.25

In each of the following questions, certain pairs of words are given, out of which the words in all pairs except one, bear a certain common relationship. Choose the pair in which the words are differently related.

Options :

1. * **Nirmala Sitharaman : Politics**
2. * **Barkha Dutt : Media**
3. * **Gautam Adani : Business**
4. ✓ **Geeta Phogat : Boxer**

Question Number : 5 Question Id : 54592730103 Question Type : MCQ Option Shuffling : Yes

Correct Marks : 1 Wrong Marks : 0.25

निम्नलिखित प्रत्येक प्रश्न में, कुछ निश्चित शब्द दिए गए हैं, जिनमें से एक को छोड़कर सभी जोड़े में शब्द एक निश्चित सामान्य संबंध है। उस जोड़ी को चुनें जिसमें शब्द अलग तरह से संबंधित हैं।

Options :

1. * **निर्मला सीतारमण : राजनीति**
2. * **बरखा दत्त : मीडिया**
3. * **गौतम अडानी : व्यवसाय**
4. ✓ **गीता फोगट : बॉक्सर**

Question Number : 6 Question Id : 54592730104 Question Type : MCQ Option Shuffling : Yes

Correct Marks : 1 Wrong Marks : 0.25

Choose the odd one from the given alternatives.

Options :

1. * **HI : PR**
2. * **EF : JL**
3. ✓ **KL : VW**

4. * BC : DF

Question Number : 6 Question Id : 54592730104 Question Type : MCQ Option Shuffling : Yes
Correct Marks : 1 Wrong Marks : 0.25

दिए गए विकल्पों में से विषम को चुनिए।

Options :

1. * HI : PR

2. * EF : JL

3. ✓ KL : VW

4. * BC : DF

Question Number : 7 Question Id : 54592730105 Question Type : MCQ Option Shuffling : Yes
Correct Marks : 1 Wrong Marks : 0.25

In the following question, select the related letter/word/number from the given alternatives.

Allergist : Allergy disorders :: Cardiologist : _____

Options :

1. * Skin

2. * Children

3. ✓ Heart

4. * Eyes

Question Number : 7 Question Id : 54592730105 Question Type : MCQ Option Shuffling : Yes
Correct Marks : 1 Wrong Marks : 0.25

निम्नलिखित प्रश्न में दिए गए विकल्पों में से सम्बन्धित अक्षर/शब्द/संख्या को चुनिए।

एलर्जिस्ट : एलर्जी विकारों के लिए :: हृदय-चिकित्सक : _____

Options :

1. * त्वचा

2. * बच्चे

3. ✓ दिल

4. * नेत्र

Question Number : 8 Question Id : 54592730106 Question Type : MCQ Option Shuffling : Yes
Correct Marks : 1 Wrong Marks : 0.25

In the following question, select the related letter/word/number from the given alternatives.

ASTU : GYZA :: LFBC : _____

Options :

1. ✓ RLHI

2. * DFGS

3. * OGHK

4. * XYZE

Question Number : 8 Question Id : 54592730106 Question Type : MCQ Option Shuffling : Yes
Correct Marks : 1 Wrong Marks : 0.25

निम्नलिखित प्रश्न में दिए गए विकल्पों में से सम्बन्धित अक्षर/शब्द/संख्या को चुनिए।

ASTU : GYZA :: LFBC : _____

Options :

1. ✓ RLHI

2. * DFGS

3. * OGHK

4. * XYZE

Question Number : 9 Question Id : 54592730107 Question Type : MCQ Option Shuffling : Yes
Correct Marks : 1 Wrong Marks : 0.25

In the following question, select the related letter/word/number from the given alternatives.

W : M :: _____ : _____

Note: For this question, discrepancy is found in question/answer. So, this question is ignored for all candidates.

Options :

1. Y : O
2. X : N
3. V : L
4. T : V

Question Number : 9 Question Id : 54592730107 Question Type : MCQ Option Shuffling : Yes
Correct Marks : 1 Wrong Marks : 0.25

निम्नलिखित प्रश्न में दिए गए विकल्पों में से सम्बन्धित अक्षर/शब्द/संख्या को चुनिए।

W : M :: _____ : _____

Note: For this question, discrepancy is found in question/answer. So, this question is ignored for all candidates.

Options :

1. Y : O
2. X : N
3. V : L
4. T : V

Question Number : 10 Question Id : 54592730108 Question Type : MCQ Option Shuffling : Yes
Correct Marks : 1 Wrong Marks : 0.25

If L is coded as 8, M is coded as 6, O is coded as 4, S is coded as 7, I is coded as 2, F is coded as 3, and G is coded as 5, then what is the coded form of FMOSIL?

Options :

1. ✖ 452783
2. ✖ 362847
3. ✖ 472683
4. ✔ 364728

Question Number : 10 Question Id : 54592730108 Question Type : MCQ Option Shuffling : Yes

Correct Marks : 1 Wrong Marks : 0.25

यदि L को 8 कूटित करते हैं, M को 6 कूटित करते हैं, O को 4 कूटित करते हैं, S को 7 कूटित करते हैं, I को 2 कूटित करते हैं, F को 3 कूटित करते हैं, और G को 5 कूटित करते हैं, तो FMOSIL का कूटित रूप क्या होगा?

Options :

1. ✖ 452783
2. ✖ 362847
3. ✖ 472683
4. ✔ 364728

Question Number : 11 Question Id : 54592730109 Question Type : MCQ Option Shuffling : Yes

Correct Marks : 1 Wrong Marks : 0.25

In a certain code language, 'Where are you now' is written as 'sho mho rho yho', 'are you make task' is written as 'mho rho gho jho' and 'make complete now' is written as 'sho gho uho'.

How is 'where' written in that code language?

Options :

1. ✖ jho

2. ✖ mho

3. ✔ yho

4. ✖ Data inadequate

Question Number : 11 Question Id : 54592730109 Question Type : MCQ Option Shuffling : Yes

Correct Marks : 1 Wrong Marks : 0.25

किसी कूट भाषा में 'Where are you now' को 'sho mho rho yho' लिखा जाता है। 'are you make task' को 'mho rho gho jho' लिखा जाता है और 'make complete now' को 'sho gho uho' लिखा जाता है।

इस कूट भाषा में 'where' को किस प्रकार लिखेंगे?

Options :

1. ✖ jho

2. ✖ mho

3. ✔ yho

4. ✖ डाटा अपर्याप्त

Question Number : 12 Question Id : 54592730110 Question Type : MCQ Option Shuffling : Yes

Correct Marks : 1 Wrong Marks : 0.25

In the following question, a group of letters is given which are numbered 1, 2, 3, 4, 5 and 6. Below are given four alternatives containing combinations of these numbers. Select that combination of numbers so that letters arranged accordingly, form a meaningful word.

I F Y V E R

2 5 1 6 3 4

Options :

1. ✓ 6, 3, 4, 2, 5, 1

2. ✗ 4, 6, 3, 5, 2, 1

3. ✗ 5, 2, 3, 1, 6, 4

4. ✗ 4, 6, 5, 2, 3, 1

Question Number : 12 Question Id : 54592730110 Question Type : MCQ Option Shuffling : Yes

Correct Marks : 1 Wrong Marks : 0.25

निम्नलिखित प्रश्न में, अक्षरों का एक समूह दिया गया है, संख्या 1, 2, 3, 4, 5 और 6 नीचे दिए गए हैं, इन संख्याओं के संयोजन वाले चार विकल्प दिए गए हैं। संख्याओं के उस संयोजन का चयन करें ताकि अक्षरों के अनुसार व्यवस्थित हो, एक सार्थक शब्द बनाएं।

I F Y V E R

2 5 1 6 3 4

Options :

1. ✓ 6, 3, 4, 2, 5, 1

2. ✗ 4, 6, 3, 5, 2, 1

3. ✗ 5, 2, 3, 1, 6, 4

4. ✗ 4, 6, 5, 2, 3, 1

Question Number : 13 Question Id : 54592730111 Question Type : MCQ Option Shuffling : Yes

Correct Marks : 1 Wrong Marks : 0.25

F, G, H, I, J, K, L and M are sitting around a circle facing at the centre. G is third of the right of K. J is second to the left of F and third to the right of L, I is second to the right of M who is to the immediate right of J. Who is fourth to the left of H?

Options :

1. ✗ K

2. ✓ F

3. ✖ I

4. ✖ M

Question Number : 13 Question Id : 54592730111 Question Type : MCQ Option Shuffling : Yes

Correct Marks : 1 Wrong Marks : 0.25

F, G, H, I, J, K, L और M वृत्ताकार में केंद्र की ओर मुख किए बैठे हैं। G, K के दायें तीसरा है। J, F के बाएं से दूसरे और L के दायें से तीसरा है, I, M के दायें से दूसरा है, जो J के निकटतम दायें है। कौन H के बाएं से चौथे स्थान पर बैठा है?

Options :

1. ✖ K

2. ✔ F

3. ✖ I

4. ✖ M

Question Number : 14 Question Id : 54592730112 Question Type : MCQ Option Shuffling : Yes

Correct Marks : 1 Wrong Marks : 0.25

Sonu is taller than Yadu, Amit is taller than Sonu. Subhash is taller than Amit. Sattu is tallest of all. If they stand according to their height who will be exactly in the middle?

Options :

1. ✖ Sonu

2. ✖ Subhash

3. ✖ Yadu

4. ✔ Amit

Question Number : 14 Question Id : 54592730112 Question Type : MCQ Option Shuffling : Yes

Correct Marks : 1 Wrong Marks : 0.25

सोनू, यदु से लम्बा है, अमित, सोनू से लम्बा है। सुभाष, अमित से लम्बा है। सत्तू सभी से लम्बा है। यदि वे अपनी ऊँचाई के अनुसार खड़े होते हैं, तो ठीक मध्य में कौन होगा?

Options :

1. * सोनू
2. * सुभाष
3. * यदु
4. ✓ अमित

Question Number : 15 Question Id : 54592730113 Question Type : MCQ Option Shuffling : Yes

Correct Marks : 1 Wrong Marks : 0.25

Five persons Arun, Kajal, Vijay, Ajay and Abhay who are of different weights, are comparing their weights. None among Vijay, Ajay and Abhay is either the heaviest or the lightest. Abhay is not heavier than Vijay. Ajay is lighter than at least three other persons. If Arun is heavier than Kajal, and Vijay is heavier than at least two other persons then who is the lightest among them?

Options :

1. * Vijay
2. * Ajay
3. ✓ Kajal
4. * Arun

Question Number : 15 Question Id : 54592730113 Question Type : MCQ Option Shuffling : Yes

Correct Marks : 1 Wrong Marks : 0.25

पांच व्यक्ति अरुण, काजल, विजय, अजय और अभय जो अलग-अलग वजन के हैं, उनके वजन की तुलना कर रहे हैं। विजय, अजय और अभय में से कोई भी सबसे भारी या हल्का नहीं है। अभय विजय से भारी नहीं है। अजय कम से कम तीन अन्य व्यक्तियों की तुलना में हल्का है। यदि अरुण काजल से भारी है, और विजय कम से कम दो अन्य व्यक्तियों से भारी है, तो उनमें से सबसे हल्का कौन है?

Options :

1. * विजय
2. * अजय
3. ✓ काजल
4. * अरुण

Question Number : 16 Question Id : 54592730114 Question Type : MCQ Option Shuffling : Yes

Correct Marks : 1 Wrong Marks : 0.25

In an exam, there are 6 students A, B, C, D, E and F. B is ahead of C, D and F. A stood 1st amongst the students while E stood last. F and C are ahead of D. Who stood 3rd amongst the six students?

Options :

1. * A
2. * F
3. * C
4. ✓ Either F or C

Question Number : 16 Question Id : 54592730114 Question Type : MCQ Option Shuffling : Yes

Correct Marks : 1 Wrong Marks : 0.25

एक परीक्षा में 6 विद्यार्थी A, B, C, D, E और F हैं। B आगे है C, D और F के। A, सभी विद्यार्थियों में पहले स्थान पर खड़ा है। जबकि E, अंतिम स्थान पर खड़ा है। F और C, D के आगे हैं। 6 विद्यार्थियों में से तीसरे स्थान पर कौन खड़ा है।

Options :

1. ✖ A
2. ✖ F
3. ✖ C
4. ✔ या F या C

Question Number : 17 Question Id : 54592730115 Question Type : MCQ Option Shuffling : Yes

Correct Marks : 1 Wrong Marks : 0.25

“Indian Hockey Academy” wants to form an Ice Hockey Team of 5 players out of a pool of 8 players named A, B, C, D, ... H. Further, the following facts are known:

- I. If A is selected, G is also selected.
- II. If H is selected, then C cannot be in the team.
- III. B is the best player, so B is always selected in the team.
- IV. D is selected only if F is selected.

Which of the following is a valid combination of players?

Options :

1. ✖ BDCFH
2. ✔ ABFDG
3. ✖ BCFEH
4. ✖ ACDFG

Question Number : 17 Question Id : 54592730115 Question Type : MCQ Option Shuffling : Yes

Correct Marks : 1 Wrong Marks : 0.25

“भारतीय हॉकी अकादमी” एक आइस हॉकी टीम बनाने के लिए 8 खिलाड़ियों A, B, C, D, ... H. के समूह में से 5 खिलाड़ियों का चयन करना चाहती है। और यह तथ्य ज्ञात है:

- I. यदि A का चयन होगा, G का भी चयन होगा।
- II. यदि H का चयन होगा, C टीम में नहीं होगा।
- III. B, सबसे श्रेष्ठ खिलाड़ी है, इसलिए B हमेशा टीम में होगा।
- IV. D का चयन केवल तब होगा, जब F का चयन होगा।

निम्न में से कौन खिलाड़ियों का मान्य संयोजन है?

Options :

1. ✘ BDCFH
2. ✔ ABFDG
3. ✘ BCFEH
4. ✘ ACDFG

Question Number : 18 Question Id : 54592730116 Question Type : MCQ Option Shuffling : Yes

Correct Marks : 1 Wrong Marks : 0.25

In the question below, there are two statements followed by three conclusions. You have to take the given statements to be true even if they seem to be at variance with commonly known facts and then decide which of the given conclusion logically follow(s) from the given statements.

Statements:

- I. Some children are adults.
- II. Some adults are old.

Conclusions:

- I. Some children are old.
- II. Some old are adults.
- III. All adults are children.

Options :

- 1. ✖ Only conclusion I follows
- 2. ✔ Only conclusion II follows
- 3. ✖ Conclusion I and II follow
- 4. ✖ Conclusion II and III follow

Question Number : 18 Question Id : 54592730116 Question Type : MCQ Option Shuffling : Yes
Correct Marks : 1 Wrong Marks : 0.25

नीचे दिए गए प्रश्न में दो कथन और उसके बाद तीन निष्कर्ष दिए गए हैं। आपको दिए गए दोनों कथनों को सत्य मानना है भले ही वे सर्वज्ञात तथ्यों से भिन्न प्रतीत होते हों। सभी निष्कर्षों को पढ़िए फिर तय कीजिए कि दिए गए निष्कर्षों में से कौन सा तर्कसंगत रूप से अनुसरण करता है, चाहे सर्वज्ञात तथ्य कुछ भी हों।

कथन:

कुछ बच्चे, बालिक हैं।

कुछ बालिक, वृद्ध हैं।

निष्कर्ष:

- I. कुछ बच्चे, वृद्ध हैं।
- II. कुछ वृद्ध, बालिक हैं।
- III. सभी बालिक, बच्चे हैं।

Options :

1. ✖ निष्कर्ष I अनुसरण हैं।
2. ✔ निष्कर्ष II अनुसरण हैं।
3. ✖ निष्कर्ष I और II अनुसरण हैं।
4. ✖ निष्कर्ष II और III अनुसरण हैं।

Question Number : 19 Question Id : 54592730117 Question Type : MCQ Option Shuffling : Yes

Correct Marks : 1 Wrong Marks : 0.25

For the Assertion (A) and Reason (R) given below, choose the correct alternative from the following:

Assertion (A): Protein is an important part of balanced diet.

Reason (R): Milk and eggs are rich in protein.

Options :

1. * Both (A) and (R) are true and (R) is the correct explanation of (A)
2. ✓ Both (A) and (R) are true, but (R) is not the correct explanation of (A)
3. * (A) is true, but (R) is false
4. * (A) is false, but (R) is true

Question Number : 19 Question Id : 54592730117 Question Type : MCQ Option Shuffling : Yes

Correct Marks : 1 Wrong Marks : 0.25

नीचे दिए गए अभिकथन (A) और कारण (R) के लिए, निम्न में से सही विकल्प चुनें:

अभिकथन (A): प्रोटीन संतुलित आहार का एक महत्वपूर्ण हिस्सा है।
कारण (R): दूध और अंडे प्रोटीन से भरपूर होते हैं।

Options :

1. * दोनों (A) और (R) सही हैं और (R), (A) का सही स्पष्टीकरण है।
2. ✓ दोनों (A) और (R) सही हैं, लेकिन (R) (A) का सही स्पष्टीकरण नहीं है।
3. * (A) सही है, लेकिन (R) गलत है।
4. * (A) गलत है, लेकिन (R) सही है।

Question Number : 20 Question Id : 54592730118 Question Type : MCQ Option Shuffling : Yes

Correct Marks : 1 Wrong Marks : 0.25

Complete the following series.

8, 17, 18, 37, 38, ?

Options :

1. * 111

2. ✖ 98

3. ✔ 77

4. ✖ 87

Question Number : 20 Question Id : 54592730118 Question Type : MCQ Option Shuffling : Yes

Correct Marks : 1 Wrong Marks : 0.25

निम्नलिखित श्रृंखला को पूरा करें:

8, 17, 18, 37, 38, ?

Options :

1. ✖ 111

2. ✖ 98

3. ✔ 77

4. ✖ 87

Mental Ability2

Group Number :	2
Group Id :	5459271492
Group Maximum Duration :	0
Group Minimum Duration :	0
Show Attended Group? :	No
Edit Attended Group? :	No
Break time:	0
Group Marks:	20
Is this Group for Examiner? :	No
Revisit allowed for group Instructions? :	Yes
Maximum Instruction Time:	0
Minimum Instruction Time:	0

Mental Ability2

Section Id :	5459271492
Section Number :	1
Section type :	Online
Mandatory or Optional:	Mandatory
Number of Questions:	20

Number of Questions to be attempted: 20
Section Marks: 20

Sub-Section Number: 1
Sub-Section Id: 5459271790
Question Shuffling Allowed : Yes

Question Number : 21 Question Id : 54592730119 Question Type : MCQ Option Shuffling : Yes
Correct Marks : 1 Wrong Marks : 0.25

Find the wrong term in the given series:

25, 36, 27, 34, 31, 32

Options :

1. ✓ 31

2. ✗ 25

3. ✗ 27

4. ✗ 32

Question Number : 21 Question Id : 54592730119 Question Type : MCQ Option Shuffling : Yes
Correct Marks : 1 Wrong Marks : 0.25

दी गई श्रृंखला में गलत पद ज्ञात करें:

25, 36, 27, 34, 31, 32

Options :

1. ✓ 31

2. ✗ 25

3. ✗ 27

4. ✗ 32

Question Number : 22 Question Id : 54592730120 Question Type : MCQ Option Shuffling : Yes
Correct Marks : 1 Wrong Marks : 0.25

Choose the odd one from the given options:

Options :

1. ✖ 3456

2. ✔ 9852

3. ✖ 5678

4. ✖ 4567

Question Number : 22 Question Id : 54592730120 Question Type : MCQ Option Shuffling : Yes
Correct Marks : 1 Wrong Marks : 0.25

दिए गए विकल्पों में से भिन्न संख्या को चुनें।

Options :

1. ✖ 3456

2. ✔ 9852

3. ✖ 5678

4. ✖ 4567

Question Number : 23 Question Id : 54592730121 Question Type : MCQ Option Shuffling : Yes
Correct Marks : 1 Wrong Marks : 0.25

Choose the odd number pair from the given options:

Options :

1. ✖ 2 - 8

2. ✔ 5 - 225

3. ✖ 7 - 343

4. ✖ 3 - 27

Question Number : 23 Question Id : 54592730121 Question Type : MCQ Option Shuffling : Yes
Correct Marks : 1 Wrong Marks : 0.25

दिए गए विकल्पों में से भिन्न संख्या को चुनें।

Options :

1. ✖ 2 - 8

2. ✔ 5 - 225

3. ✖ 7 - 343

4. ✖ 3 - 27

Question Number : 24 Question Id : 54592730122 Question Type : MCQ Option Shuffling : Yes
Correct Marks : 1 Wrong Marks : 0.25

Choose the odd number pair from the given options:

Options :

1. ✔ 49 : 7 : 289

2. ✖ 25 : 5 : 125

3. ✖ 64 : 8 : 512

4. ✖ 16 : 4 : 64

Question Number : 24 Question Id : 54592730122 Question Type : MCQ Option Shuffling : Yes
Correct Marks : 1 Wrong Marks : 0.25

दिए गए विकल्पों में से भिन्न संख्या को चुनें।

Options :

1. ✔ 49 : 7 : 289

2. ✖ 25 : 5 : 125

3. ✖ 64 : 8 : 512

4. ✖ 16 : 4 : 64

Question Number : 25 Question Id : 54592730123 Question Type : MCQ Option Shuffling : Yes
Correct Marks : 1 Wrong Marks : 0.25

In the following question, select the related letter/word/number from the given alternatives.

(187, 198, 225)

Options :

1. ✔ (230, 241, 268)

2. ✖ (460, 472, 240)

3. ✖ (320, 241, 258)

4. ✖ (140, 231, 278)

Question Number : 25 Question Id : 54592730123 Question Type : MCQ Option Shuffling : Yes

Correct Marks : 1 Wrong Marks : 0.25

निम्नलिखित प्रश्न में दिए गए विकल्पों में से सम्बन्धित अक्षर/शब्द/संख्या को चुनिए।

(187, 198, 225)

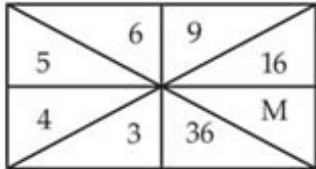
Options :

1. ✓ (230, 241, 268)
2. ✗ (460, 472, 240)
3. ✗ (320, 241, 258)
4. ✗ (140, 231, 278)

Question Number : 26 Question Id : 54592730124 Question Type : MCQ Option Shuffling : Yes

Correct Marks : 1 Wrong Marks : 0.25

Find the value of M in the following figure.



Options :

1. ✓ 25
2. ✗ 36
3. ✗ 49
4. ✗ 64

Question Number : 26 Question Id : 54592730124 Question Type : MCQ Option Shuffling : Yes

Correct Marks : 1 Wrong Marks : 0.25

निम्नलिखित आकृति में M का मान ज्ञात कीजिए।

5	6	9
4	3	36

Options :

- ✓ 25
- * 36
- * 49
- * 64

Question Number : 27 Question Id : 54592730125 Question Type : MCQ Option Shuffling : Yes
Correct Marks : 1 Wrong Marks : 0.25

Find out the two signs to be interchanged for making following equation correct:

$$12 \times 4 + 5 \div 4 = 23$$

Options :

- ✓ \div and \times
- * $-$ and $+$
- * $-$ and \times
- * \times and $+$

Question Number : 27 Question Id : 54592730125 Question Type : MCQ Option Shuffling : Yes
Correct Marks : 1 Wrong Marks : 0.25

निम्नलिखित समीकरण को सही बनाने के लिए निम्न दो संकेतों को ज्ञात कीजिये:

$$12 \times 4 + 5 \div 4 = 23$$

Options :

1. ✓ ÷ और x

2. * - और +

3. * - और x

4. * x और +

Question Number : 28 Question Id : 54592730126 Question Type : MCQ Option Shuffling : Yes
Correct Marks : 1 Wrong Marks : 0.25

In the question given below, there is a statement followed by two conclusions. You have to take the given statement to be true even if they seem to be at variance with commonly known facts and then decide which of the given conclusion logically follow(s) from the given statements.

Statements:

$G > U \geq C = T \leq P < J \leq Z$

Conclusions:

I. $U = T$

II. $U > T$

Options :

1. * If only conclusion I is true

2. * If neither conclusion I nor II is true

3. * If only conclusion II is true

4. ✓ If either conclusion I or II is true

Question Number : 28 Question Id : 54592730126 Question Type : MCQ Option Shuffling : Yes
Correct Marks : 1 Wrong Marks : 0.25

नीचे दिए गए प्रश्न में, एक कथन के बाद दो निष्कर्ष हैं। आपको दिए गए कथन को सत्य मानना है, भले ही वे आम तौर पर ज्ञात तथ्यों के साथ विचरण करते हों और फिर तय करें कि दिए गए कथन में से कौन सा निष्कर्ष तार्किक रूप से अनुसरण करता है।

कथन:

$$G > U \geq C = T \leq P < J \leq Z$$

निष्कर्ष:

I. $U = T$

II. $U > T$

Options :

1. * यदि केवल निष्कर्ष I सत्य है।
2. * यदि न तो निष्कर्ष I और न ही II सत्य है।
3. * यदि केवल निष्कर्ष II सत्य है।
4. ✓ यदि या तो निष्कर्ष I या II सत्य है।

Question Number : 29 Question Id : 54592730127 Question Type : MCQ Option Shuffling : Yes

Correct Marks : 1 Wrong Marks : 0.25

Find odd number.

Options :

1. * 23
2. * 83
3. ✓ 63
4. * 97

Question Number : 29 Question Id : 54592730127 Question Type : MCQ Option Shuffling : Yes

Correct Marks : 1 Wrong Marks : 0.25

विषम संख्या ज्ञात कीजिए:

Options :

1. * 23
2. * 83

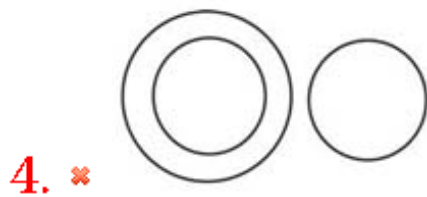
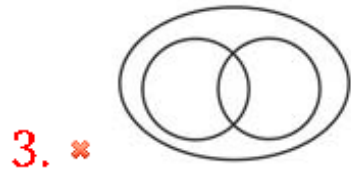
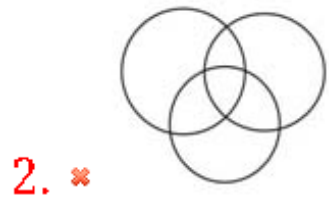
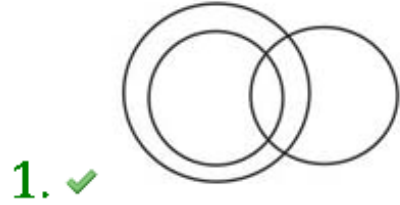
3. ✓ 63

4. ✖ 97

Question Number : 30 Question Id : 54592730128 Question Type : MCQ Option Shuffling : Yes
Correct Marks : 1 Wrong Marks : 0.25

Which of the following diagrams best represents a relationship among Fiber, Cotton and Shirt?

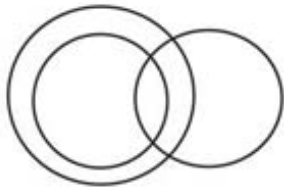
Options :



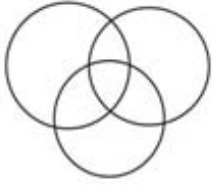
Question Number : 30 Question Id : 54592730128 Question Type : MCQ Option Shuffling : Yes
Correct Marks : 1 Wrong Marks : 0.25

निम्नलिखित में से कौन सा चित्र फाइबर, कपास और कमीज़ के बीच संबंध का प्रतिनिधित्व करता है?

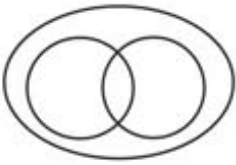
Options :



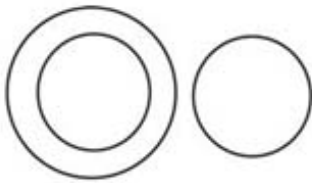
1. ✓



2. ✗



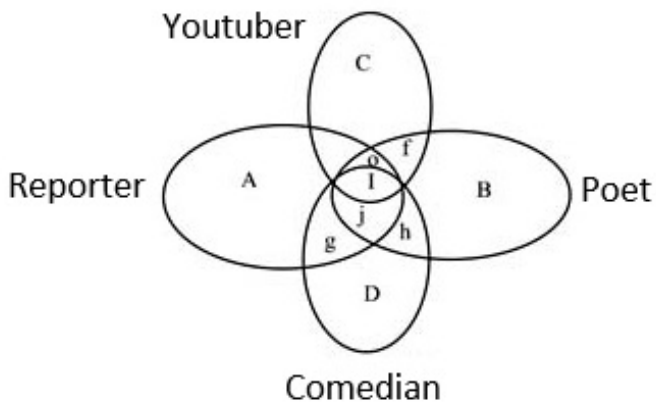
3. ✗



4. ✗

Question Number : 31 Question Id : 54592730129 Question Type : MCQ Option Shuffling : Yes
 Correct Marks : 1 Wrong Marks : 0.25

Which of the following letters represents the group of person who is a Poet, a Comedian and a reporter but not Youtuber?



Options :

1. ✓ j

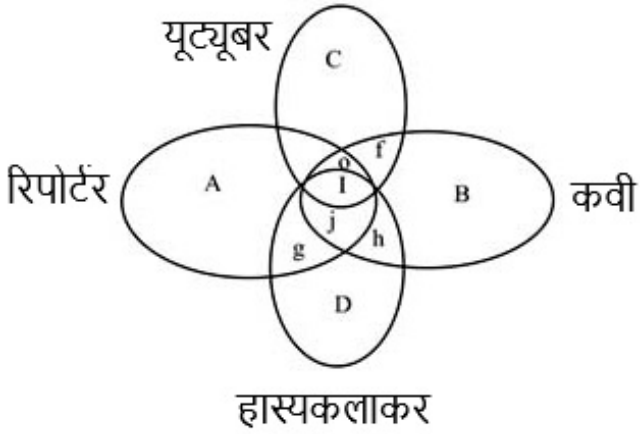
2. ✗ i

3. ✗ o

4. ✗ e

Question Number : 31 Question Id : 54592730129 Question Type : MCQ Option Shuffling : Yes
Correct Marks : 1 Wrong Marks : 0.25

निम्नलिखित में से कौन सा अक्षर उस व्यक्ति के समूह का प्रतिनिधित्व करता है जो एक कवि, एक कॉमेडियन और एक रिपोर्टर है, लेकिन यूट्यूबर नहीं है?



Options :

1. ✓ j

2. ✗ i

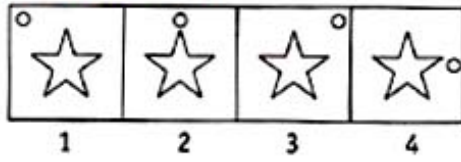
3. ✗ o

4. ✗ e

Question Number : 32 Question Id : 54592730130 Question Type : MCQ Option Shuffling : Yes
Correct Marks : 1 Wrong Marks : 0.25

Complete the series by choosing right figure from the given choices.

Question Figures



Options :

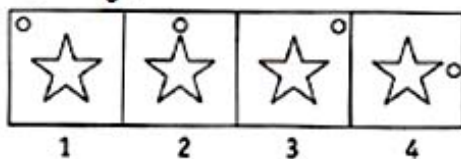


Question Number : 32 Question Id : 54592730130 Question Type : MCQ Option Shuffling : Yes

Correct Marks : 1 Wrong Marks : 0.25

दिए गए विकल्पों में से सही उत्तर चुनकर श्रृंखला को पूरा करें।

प्रश्न आकृति



Options :



Question Number : 33 Question Id : 54592730131 Question Type : MCQ Option Shuffling : Yes
Correct Marks : 1 Wrong Marks : 0.25

Complete the series by choosing right figure from the given choices.

Question Figures



Options :





Question Number : 33 Question Id : 54592730131 Question Type : MCQ Option Shuffling : Yes
Correct Marks : 1 Wrong Marks : 0.25

दिए गए विकल्पों में से सही उत्तर चुनकर श्रृंखला को पूरा करें।

प्रश्न आकृति



Options :



3. ✖



4. ✔



Question Number : 34 Question Id : 54592730132 Question Type : MCQ Option Shuffling : Yes
Correct Marks : 1 Wrong Marks : 0.25

Find the missing figure in the given matrix.

		?

Options :

1. ✖






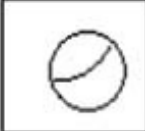
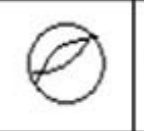



2. ✖



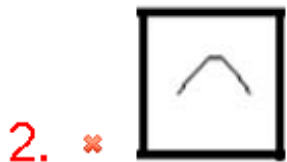


Question Number : 34 Question Id : 54592730132 Question Type : MCQ Option Shuffling : Yes
 Correct Marks : 1 Wrong Marks : 0.25

दिए गए मैट्रिक्स में लुप्त आकृति ज्ञात कीजिए।

		
		
		?

Options :

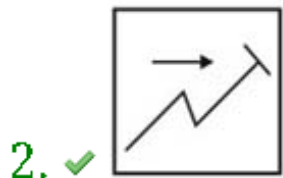
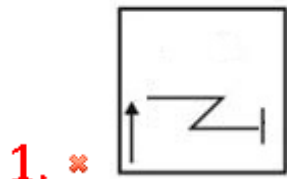




Question Number : 35 Question Id : 54592730133 Question Type : MCQ Option Shuffling : Yes
Correct Marks : 1 Wrong Marks : 0.25

Three of the four figures are marked in a sequence or similarity in some way. You have to choose the figure which is odd:

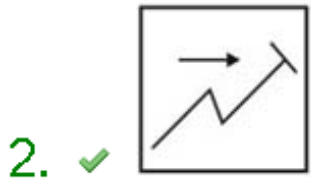
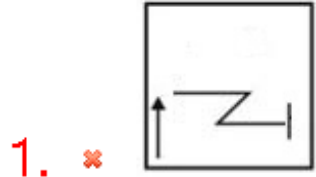
Options :



Question Number : 35 Question Id : 54592730133 Question Type : MCQ Option Shuffling : Yes
Correct Marks : 1 Wrong Marks : 0.25

निम्नलिखित चार चित्रों में से तीन में एक समानता है। आपको वह आकृति ज्ञात करनी है जो विषम / भिन्न हो।

Options :



Question Number : 36 Question Id : 54592730134 Question Type : MCQ Option Shuffling : Yes
Correct Marks : 1 Wrong Marks : 0.25

How many straight lines are there in the figure given below?



Options :

1. ✖ 15

2. ✖ 10

3. ✔ 14

4. ✖ 16

Question Number : 36 Question Id : 54592730134 Question Type : MCQ Option Shuffling : Yes
Correct Marks : 1 Wrong Marks : 0.25

नीचे दी गई आकृति में कितनी सीधी रेखाएँ हैं?



Options :

1. ✖ 15


2. ✖ 10

3. ✔ 14

4. ✖ 16

Question Number : 37 Question Id : 54592730135 Question Type : MCQ Option Shuffling : Yes
Correct Marks : 1 Wrong Marks : 0.25

Three positions of a dice are given. Find out which is found opposite the letter D in the given cube.



Options :

1. ✖ F

2. ✖ E

3. ✓ C

4. ✗ A

Question Number : 37 Question Id : 54592730135 Question Type : MCQ Option Shuffling : Yes

Correct Marks : 1 Wrong Marks : 0.25

एक पासे की तीन स्थितियां दी गई हैं। ज्ञात कीजिए कि दिए गए पासे में अक्षर D के विपरीत कौन सा अक्षर होगा?



Options :

1. ✗ F

2. ✗ E

3. ✓ C

4. ✗ A

Question Number : 38 Question Id : 54592730136 Question Type : MCQ Option Shuffling : Yes

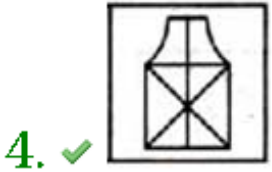
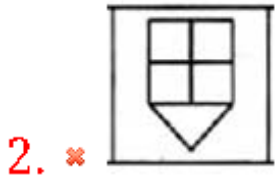
Correct Marks : 1 Wrong Marks : 0.25

In the given question find the answer figure in which question figure is embedded.



Options :





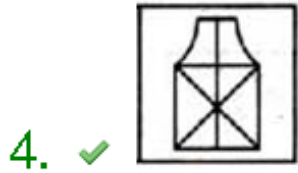
Question Number : 38 Question Id : 54592730136 Question Type : MCQ Option Shuffling : Yes
Correct Marks : 1 Wrong Marks : 0.25

दिए गए प्रश्न में उत्तर आकृति ज्ञात कीजिए जिसमें प्रश्न आकृति सन्निहित है।



Options :

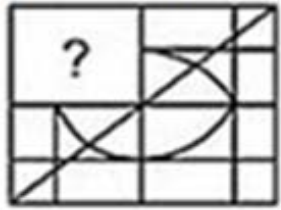




Question Number : 39 Question Id : 54592730137 Question Type : MCQ Option Shuffling : Yes
Correct Marks : 1 Wrong Marks : 0.25

Which answer figure will complete the pattern in the question figure?

Question figures



Options :

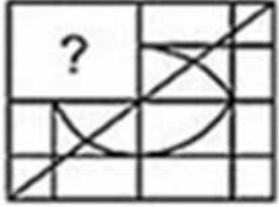


Question Number : 39 Question Id : 54592730137 Question Type : MCQ Option Shuffling : Yes

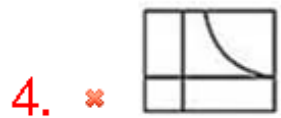
Correct Marks : 1 Wrong Marks : 0.25

कौन सी उत्तर आकृति प्रश्न आकृति में पैटर्न को पूरा करेगी?

प्रश्न आकृति



Options :



Question Number : 40 Question Id : 54592730138 Question Type : MCQ Option Shuffling : Yes

Correct Marks : 1 Wrong Marks : 0.25

Which of the following choices is the exact mirror image of the main figure

Question Figure:




Options :



Question Number : 40 Question Id : 54592730138 Question Type : MCQ Option Shuffling : Yes
Correct Marks : 1 Wrong Marks : 0.25

निम्नलिखित में से कौन सा विकल्प मुख्य आकृति की सटीक दर्पण छवि है?

प्रश्न आकृति



Options :



General Awareness1

Group Number :	3
Group Id :	5459271493
Group Maximum Duration :	0
Group Minimum Duration :	0
Show Attended Group? :	No
Edit Attended Group? :	No

Break time:	0
Group Marks:	20
Is this Group for Examiner?:	No
Revisit allowed for group Instructions? :	Yes
Maximum Instruction Time:	0
Minimum Instruction Time:	0

General Awareness1

Section Id :	5459271493
Section Number :	1
Section type :	Online
Mandatory or Optional:	Mandatory
Number of Questions:	20
Number of Questions to be attempted:	20
Section Marks:	20

Sub-Section Number:	1
Sub-Section Id:	5459271791
Question Shuffling Allowed :	Yes

Question Number : 41 Question Id : 54592730139 Question Type : MCQ Option Shuffling : Yes
Correct Marks : 1 Wrong Marks : 0.25

Which of the following is the most notable form of dance-drama that has originated from Kerala?

Options :

1. * Kathak
2. * Bharatnatyam
3. ✓ Kathakali
4. * Mohiniyattam

Question Number : 41 Question Id : 54592730139 Question Type : MCQ Option Shuffling : Yes
Correct Marks : 1 Wrong Marks : 0.25

निम्नलिखित में से कौन सा नृत्य-नाटक का सबसे उल्लेखनीय रूप है जो केरल से उत्पन्न हुआ है?

Options :

1. * कथक
2. * भरतनाट्यम

3. ✓ कथकली

4. ✘ मोहिनीअट्टम

Question Number : 42 Question Id : 54592730140 Question Type : MCQ Option Shuffling : Yes

Correct Marks : 1 Wrong Marks : 0.25

Which of the following are the regional music of the Garhwal region?

Options :

1. ✓ Basant Geet and Ghasiyari Geet

2. ✘ Villu Pattu and Chai hia

3. ✘ Ammanaivari and Ghasiyari Geet

4. ✘ Chai hia and Ammanaivari

Question Number : 42 Question Id : 54592730140 Question Type : MCQ Option Shuffling : Yes

Correct Marks : 1 Wrong Marks : 0.25

गढ़वाल क्षेत्र के क्षेत्रीय संगीत निम्नलिखित में से कौन से हैं?

Options :

1. ✓ बसंत गीत और घसियारी गीत

2. ✘ विल्लू पट्टू और चाय हिया

3. ✘ अम्मानाईवरी और घसियारी गीत

4. ✘ चाय हिया और अम्मानाईवरी

Question Number : 43 Question Id : 54592730141 Question Type : MCQ Option Shuffling : Yes

Correct Marks : 1 Wrong Marks : 0.25

Brahmotsavam is one of the major festivals of _____.

Options :

1. ✘ Maharashtra

2. ✘ Tamil Nadu

3. ✓ Andhra Pradesh

4. ✘ Karnataka

Question Number : 43 Question Id : 54592730141 Question Type : MCQ Option Shuffling : Yes
Correct Marks : 1 Wrong Marks : 0.25

ब्रह्मोत्सवम _____ के प्रमुख त्योहारों में से एक है।

Options :

1. * महाराष्ट्र
2. * तमिलनाडु
3. ✓ आंध्र प्रदेश
4. * कर्नाटक

Question Number : 44 Question Id : 54592730142 Question Type : MCQ Option Shuffling : Yes
Correct Marks : 1 Wrong Marks : 0.25

This monument was dedicated to Arjumand Bano Begum. Amanat Khan Shirazi was its calligrapher. Which monument is this?

Options :

1. * Fatehpur Sikri
2. ✓ Taj Mahal
3. * Buland Darwaza
4. * Delhi Fort

Question Number : 44 Question Id : 54592730142 Question Type : MCQ Option Shuffling : Yes
Correct Marks : 1 Wrong Marks : 0.25

यह स्मारक अर्जुमंद बानो बेगम को समर्पित था। अमानत खान शिराजी इसके सुलेखक थे। यह कौन सा स्मारक है?

Options :

1. * फतेहपुर सीकरी
2. ✓ ताजमहल
3. * बुलंद दरवाजा
4. * दिल्ली का किला

Question Number : 45 Question Id : 54592730143 Question Type : MCQ Option Shuffling : Yes

Correct Marks : 1 Wrong Marks : 0.25

What will be the Fiscal Deficit for the financial year 2019-20 as per the Union Budget 2019?

Options :

1. ✓ 3.3 percent
2. ✗ 3.4 percent
3. ✗ 3.5 percent
4. ✗ 3.6 percent

Question Number : 45 Question Id : 54592730143 Question Type : MCQ Option Shuffling : Yes

Correct Marks : 1 Wrong Marks : 0.25

केंद्रीय बजट 2019 के अनुसार वित्तीय वर्ष 2019-20 के लिए वित्तीय घाटा क्या होगा?

Options :

1. ✓ 3.3 प्रतिशत
2. ✗ 3.4 प्रतिशत
3. ✗ 3.5 प्रतिशत
4. ✗ 3.6 प्रतिशत

Question Number : 46 Question Id : 54592730144 Question Type : MCQ Option Shuffling : Yes

Correct Marks : 1 Wrong Marks : 0.25

Which of the following steps have been declared under the Union Budget 2019?

Options :

1. ✓ Rs 1 lakh loan to be provided for Self Help Group (SHG) women members under Mudra Scheme.
2. ✗ Overdraft of Rs. 10,000 for every verified women SHG (Self Help Group) member having a Jan Dhan Bank Account.
3. ✗ One woman per Self Help Group (SHG) will be eligible for a loan up to Rs. 5 lakh under the MUDRA scheme.

4. * Shift approach from women-led initiatives to women-centric policy making.

Question Number : 46 Question Id : 54592730144 Question Type : MCQ Option Shuffling : Yes
Correct Marks : 1 Wrong Marks : 0.25

केंद्रीय बजट 2019 के तहत निम्नलिखित में से कौन सा कदम घोषित किया गया है?

Options :

1. ✓ मुद्रा योजना के तहत स्वयं सहायता समूह (एसएचजी) की महिला सदस्यों के लिए 1 लाख रुपये का ऋण प्रदान किया जाएगा।
2. * जन धन बैंक खाता रखने वाली प्रत्येक सत्यापित महिला एसएचजी (स्वयं सहायता समूह) सदस्य के लिए 10,000 रुपये का ओवरड्राफ्ट।
3. * एक महिला प्रति स्वयं सहायता समूह (एसएचजी) में मुद्रा योजना के तहत 5 लाख रुपये तक के ऋण के लिए योग्य होगी।
4. * महिलाओं के नेतृत्व वाली पहल से महिला केंद्रित नीति निर्माण तक दृष्टिकोण में परिवर्तन।

Question Number : 47 Question Id : 54592730145 Question Type : MCQ Option Shuffling : Yes
Correct Marks : 1 Wrong Marks : 0.25

As per the Economic Survey 2018-19, if India grows at a real annual growth rate in Gross Domestic Product (GDP) of 8 percent every year from now on, then it will become a USD 5 trillion economy by:

Options :

1. * 2030-31
2. * 2027-28
3. ✓ 2024-25
4. * 2021-22

Question Number : 47 Question Id : 54592730145 Question Type : MCQ Option Shuffling : Yes

Correct Marks : 1 Wrong Marks : 0.25

आर्थिक समीक्षा 2018-19 के अनुसार, यदि भारत अब से हर वर्ष सकल घरेलु उत्पाद (जीडीपी) की वास्तविक वार्षिक वृद्धि दर 8% की दर से बढ़ता है, तो यह एक यूएसडी 5 ट्रिलियन की अर्थव्यवस्था कब तक बन जाएगी?

Options :

1. ✖ 2030-31
2. ✖ 2027-28
3. ✔ 2024-25
4. ✖ 2021-22

Question Number : 48 Question Id : 54592730146 Question Type : MCQ Option Shuffling : Yes

Correct Marks : 1 Wrong Marks : 0.25

“Imagine that you are holding a current-carrying straight conductor in your right hand such that the thumb points towards the direction of current. Then your fingers will wrap around the conductor in the direction of the field lines of the magnetic field. “ Which of the following rule have been stated above?

Options :

1. ✔ Right Hand Thumb rule
2. ✖ Left Hand Thumb rule
3. ✖ Right Hand rule
4. ✖ Left Hand rule

Question Number : 48 Question Id : 54592730146 Question Type : MCQ Option Shuffling : Yes

Correct Marks : 1 Wrong Marks : 0.25

" कल्पना कीजिए कि आप अपने दाहिने हाथ में विद्युत धारावाही चालक को इस प्रकार पकड़े हुए हैं कि आपका अँगूठा विद्युत धारा की दिशा की ओर संकेत करता है, तो आपकी अँगुलियाँ चालक के चारों ओर चुंबकीय क्षेत्र की क्षेत्र रेखाओं की दिशा में लिपटी होंगी । "

निम्नलिखित में से कौन सा नियम उपरोक्त बताया गया है?

Options :

1. ✓ दाहिने हाथ का अँगूठा नियम
2. * बाएँ हाथ का अँगूठा नियम
3. * दाहिने हाथ का नियम
4. * बाएँ हाथ का नियम

Question Number : 49 Question Id : 54592730147 Question Type : MCQ Option Shuffling : Yes

Correct Marks : 1 Wrong Marks : 0.25

Each metre (m) is divided into (i)_____ equal divisions, called centimetre (cm). Each centimetre has (ii)_____ equal divisions, called millimetre (mm).

Options :

1. * (i) 10, (ii) 10
2. ✓ (i) 100, (ii) 10
3. * (i) 1000, (ii) 100
4. * (i) 1000, (ii) 1000

Question Number : 49 Question Id : 54592730147 Question Type : MCQ Option Shuffling : Yes

Correct Marks : 1 Wrong Marks : 0.25

प्रत्येक मीटर (m) को (i) _____ समान विभाजनों में विभाजित किया जाता है, जिसे सेंटीमीटर (सेमी) कहा जाता है। प्रत्येक सेंटीमीटर में (ii) _____ समान विभाजन होते हैं, जिन्हें मिलीमीटर (मिमी) कहा जाता है।

Options :

1. ✖ (i) 10, (ii) 10
2. ✔ (i) 100, (ii) 10
3. ✖ (i) 1000, (ii) 100
4. ✖ (i) 1000, (ii) 1000

Question Number : 50 Question Id : 54592730148 Question Type : MCQ Option Shuffling : Yes
Correct Marks : 1 Wrong Marks : 0.25

Which of the following is not a chemical change?

Options :

1. ✖ When food gets spoiled, it produces a foul smell.
2. ✖ A slice of an apple acquires a brown colour if it is not consumed immediately.
3. ✔ When sugar gets dissolved in water.
4. ✖ Only physical change occurs in case of food items.

Question Number : 50 Question Id : 54592730148 Question Type : MCQ Option Shuffling : Yes
Correct Marks : 1 Wrong Marks : 0.25

निम्नलिखित में से कौन सा रासायनिक परिवर्तन नहीं है?

Options :

1. ✖ जब भोजन सड़ जाता है तब उसमें से दुर्गंध आने लगती है।
2. ✖ यदि सेब के टुकड़ों को तत्काल न खा लिया जाये तो वह भूरे रंग के हो जाते हैं।
3. ✔ जब चीनी पानी में घुल जाती है।
4. ✖ खाद्य पदार्थों के मामले में केवल भौतिक परिवर्तन होते हैं।

Question Number : 51 Question Id : 54592730149 Question Type : MCQ Option Shuffling : Yes
Correct Marks : 1 Wrong Marks : 0.25

Which of the following pairs are not of female reproductive system?

Options :

1. * Uterus and Oviduct
2. * Oviduct and Ovary
3. ✓ Testis and Sperm duct
4. * Uterus and Ovary

Question Number : 51 Question Id : 54592730149 Question Type : MCQ Option Shuffling : Yes
Correct Marks : 1 Wrong Marks : 0.25

निम्नलिखित में से कौन सी जोड़ी महिला प्रजनन प्रणाली की नहीं है?

Options :

1. * गर्भाशय और अंडवाहिनी
2. * अंडवाहिनी और अंडाशय
3. ✓ वृषण और शुक्राणु नलिका
4. * गर्भाशय और अंडाशय

Question Number : 52 Question Id : 54592730150 Question Type : MCQ Option Shuffling : Yes
Correct Marks : 1 Wrong Marks : 0.25

Forest fires and volcanic eruptions are the prime source of _____ pollution.

Options :

1. ✓ Air
2. * Water
3. * Soil
4. * Noise

Question Number : 52 Question Id : 54592730150 Question Type : MCQ Option Shuffling : Yes
Correct Marks : 1 Wrong Marks : 0.25

जंगल की आग और ज्वालामुखी विस्फोट _____ प्रदूषण के प्रमुख स्रोत हैं।

Options :

1. ✓ वायु

2. * जल
3. * मृदा
4. * ध्वनि

Question Number : 53 Question Id : 54592730151 Question Type : MCQ Option Shuffling : Yes
Correct Marks : 1 Wrong Marks : 0.25

Mark the incorrect statement.

Options :

1. * Government has taken several steps to prevent open defecation.
2. * Open defecation causes public health problems.
3. * The germs in the faeces and urine often find their way into sources of water and food which may lead to disease.
4. ✓ Open defecation is the practice of defecating in the toilet.

Question Number : 53 Question Id : 54592730151 Question Type : MCQ Option Shuffling : Yes
Correct Marks : 1 Wrong Marks : 0.25

गलत कथन अंकित करें।

Options :

1. * खुले में शौच को रोकने के लिए सरकार ने कई कदम उठाए हैं।
2. * खुले में शौच सार्वजनिक स्वास्थ्य समस्याओं का कारण बनता है।
3. * मल और मूत्र के कीटाणु अक्सर पानी और भोजन के स्रोतों में अपना रास्ता खोज लेते हैं जिससे बीमारी हो सकती है।
4. ✓ खुले में शौच करना शौचालय में शौच करने की प्रथा है।

Question Number : 54 Question Id : 54592730152 Question Type : MCQ Option Shuffling : Yes
Correct Marks : 1 Wrong Marks : 0.25

Dysentery, plague, diphtheria, etc are caused due to:

Options :

1. * Virus

2. ✓ Bacteria

3. ✗ Fungus

4. ✗ Protozoa

Question Number : 54 Question Id : 54592730152 Question Type : MCQ Option Shuffling : Yes

Correct Marks : 1 Wrong Marks : 0.25

अतिसार पेचिश ,डाइसेंटरीद्ध, प्लेग और डिफ्थीरिया आदि किसके कारण होते हैं?

Options :

1. ✗ वाइरस (विषाणु)

2. ✓ जीवाणु

3. ✗ कवक

4. ✗ परजीवी (प्रोटोजोआ)

Question Number : 55 Question Id : 54592730153 Question Type : MCQ Option Shuffling : Yes

Correct Marks : 1 Wrong Marks : 0.25

Wuchereria, the filarial worms are the cause of:

Options :

1. ✗ Ringworms

2. ✗ Amoebiasis

3. ✓ Elephantiasis

4. ✗ Malaria

Question Number : 55 Question Id : 54592730153 Question Type : MCQ Option Shuffling : Yes

Correct Marks : 1 Wrong Marks : 0.25

वुचेरेरिया, फाइलेरिया कृमि किसका कारण हैं?

Options :

1. ✗ दाद

2. ✗ अमोएबीएसइस

3. ✓ श्लीपद (एलीफान्टिसिस)

4. * मलेरिया

Question Number : 56 Question Id : 54592730154 Question Type : MCQ Option Shuffling : Yes
Correct Marks : 1 Wrong Marks : 0.25

Through which of the following states does the Godavari river not pass?

Options :

1. * Maharashtra
2. * Telengana
3. * Andhra Pradesh
4. ✓ Tamil Nadu

Question Number : 56 Question Id : 54592730154 Question Type : MCQ Option Shuffling : Yes
Correct Marks : 1 Wrong Marks : 0.25

गोदावरी नदी निम्नलिखित में से किस राज्य से नहीं गुजरती है?

Options :

1. * महाराष्ट्र
2. * तेलंगाना
3. * आंध्र प्रदेश
4. ✓ तमिलनाडु

Question Number : 57 Question Id : 54592730155 Question Type : MCQ Option Shuffling : Yes
Correct Marks : 1 Wrong Marks : 0.25

Which of the following mountains/hills is not in the Peninsular Block of India?

Options :

1. * Nallamala hills
2. * Veliconda hills
3. * Javadi hills
4. ✓ Lunglei hills

Question Number : 57 Question Id : 54592730155 Question Type : MCQ Option Shuffling : Yes

Correct Marks : 1 Wrong Marks : 0.25

निम्नलिखित में से कौन सा पर्वत / पहाड़ियाँ भारत के प्रायद्वीपीय खण्ड में नहीं है?

Options :

1. * नल्लामाला पहाड़ियाँ
2. * वेलिकोन्डा पहाड़ियाँ
3. * जावड़ी पहाड़ियाँ
4. ✓ लुंगलेई पहाड़ियाँ

Question Number : 58 Question Id : 54592730156 Question Type : MCQ Option Shuffling : Yes

Correct Marks : 1 Wrong Marks : 0.25

Which of the factors affecting soil formation determines the colour, texture, chemical properties mineral, content, permeability of the soil?

Options :

1. ✓ Parent rock
2. * Relief
3. * Micro-organisms
4. * Time

Question Number : 58 Question Id : 54592730156 Question Type : MCQ Option Shuffling : Yes

Correct Marks : 1 Wrong Marks : 0.25

मिट्टी के निर्माण को प्रभावित करने वाले कारकों में से कौन सा रंग, बनावट, खनिज के रासायनिक गुण, सामग्री, मिट्टी की पारगम्यता निर्धारित करता है?

Options :

1. ✓ जनक चट्टान
2. * राहत
3. * सूक्ष्म जीव

4. * समय

Question Number : 59 Question Id : 54592730157 Question Type : MCQ Option Shuffling : Yes
Correct Marks : 1 Wrong Marks : 0.25

Which of following crop is known as the 'Golden Fibre'?

Options :

1. * Cotton
2. * Maize
3. ✓ Jute
4. * Wheat

Question Number : 59 Question Id : 54592730157 Question Type : MCQ Option Shuffling : Yes
Correct Marks : 1 Wrong Marks : 0.25

निम्नलिखित में से किस फसल को 'सुनहरे रेशे' ('गोल्डन फाइबर') के नाम से जाना जाता है?

Options :

1. * कपास
2. * मक्का
3. ✓ जूट
4. * गेहूँ

Question Number : 60 Question Id : 54592730158 Question Type : MCQ Option Shuffling : Yes
Correct Marks : 1 Wrong Marks : 0.25

In India, literacy rate denotes the percentage of population above ____ of age, who can read, write and have the ability to do arithmetic calculations with understanding.

Options :

1. ✓ 7 years
2. * 10 years
3. * 12 years
4. * 15 years

Question Number : 60 Question Id : 54592730158 Question Type : MCQ Option Shuffling : Yes

Correct Marks : 1 Wrong Marks : 0.25

भारत में, साक्षरता दर _____ आयु से ज़्यादा की जनसंख्या के प्रतिशत को दर्शाता है, जो समझ के साथ अंकगणितीय गणना कर सकते हैं, पढ़ सकते हैं और लिख सकते हैं।

Options :

1. ✓ 7 वर्ष
2. ✗ 10 वर्ष
3. ✗ 12 वर्ष
4. ✗ 15 वर्ष

General Awareness2

Group Number :	4
Group Id :	5459271494
Group Maximum Duration :	0
Group Minimum Duration :	0
Show Attended Group? :	No
Edit Attended Group? :	No
Break time:	0
Group Marks:	20
Is this Group for Examiner? :	No
Revisit allowed for group Instructions? :	Yes
Maximum Instruction Time:	0
Minimum Instruction Time:	0

General Awareness2

Section Id :	5459271494
Section Number :	1
Section type :	Online
Mandatory or Optional:	Mandatory
Number of Questions:	20
Number of Questions to be attempted:	20
Section Marks:	20

Sub-Section Number:	1
Sub-Section Id:	5459271792

Question Number : 61 Question Id : 54592730159 Question Type : MCQ Option Shuffling : Yes

Correct Marks : 1 Wrong Marks : 0.25

Which of the following states of India doesn't share its borders with Bangladesh?

Options :

1. * Tripura
2. * Meghalaya
3. * Assam
4. ✓ Sikkim

Question Number : 61 Question Id : 54592730159 Question Type : MCQ Option Shuffling : Yes

Correct Marks : 1 Wrong Marks : 0.25

भारत के निम्नलिखित राज्यों में से कौन सा बांग्लादेश के साथ अपनी सीमाओं को साझा नहीं करता है?

Options :

1. * त्रिपुरा
2. * मेघालय
3. * असम
4. ✓ सिक्किम

Question Number : 62 Question Id : 54592730160 Question Type : MCQ Option Shuffling : Yes

Correct Marks : 1 Wrong Marks : 0.25

Which of the following languages do not belong to the Indo-European group of languages?

Options :

1. * Sindhi
2. * Assamese
3. * Persian
4. ✓ Malayalam

Question Number : 62 Question Id : 54592730160 Question Type : MCQ Option Shuffling : Yes
Correct Marks : 1 Wrong Marks : 0.25

निम्नलिखित में से कौन सी भाषा इंडो-यूरोपीय समूह की भाषाओं से संबंधित नहीं है?

Options :

1. * सिंधी
2. * असमिया
3. * फ़ारसी
4. ✓ मलयालम

Question Number : 63 Question Id : 54592730161 Question Type : MCQ Option Shuffling : Yes
Correct Marks : 1 Wrong Marks : 0.25

Megasthenes was an ambassador of (i)_____, sent to the court of (ii)_____.

Options :

1. ✓ (i) Seleucus I Nicator (ii) Chandragupta Maurya
2. * (i) Alexander (ii) Bindusara
3. * (i) Seleucus I Nicator (ii) Bindusara
4. * (i) Alexander (ii) Chandragupta Maurya

Question Number : 63 Question Id : 54592730161 Question Type : MCQ Option Shuffling : Yes
Correct Marks : 1 Wrong Marks : 0.25

मेगास्थेनीज (i) _____ के राजदूत थे, जिन्हें (ii) _____ के दरबार में भेजा गया था।

Options :

1. ✓ (i) सेल्यूकस प्रथम निकेटर (ii) चंद्रगुप्त मौर्य
2. * (i) अलेक्जेंडर (ii) बिन्दुसार
3. * (i) सेल्यूकस प्रथम निकेटर (ii) बिन्दुसार
4. * (i) अलेक्जेंडर (ii) चंद्रगुप्त मौर्य

Question Number : 64 Question Id : 54592730162 Question Type : MCQ Option Shuffling : Yes
Correct Marks : 1 Wrong Marks : 0.25

Which of the following Delhi Sultanate rulers constructed a new garrison town named Siri for his soldiers to counter the Mongol invasion?

Options :

1. * Muhammad bin Tughlaq
2. ✓ Alauddin Khalji
3. * Jalaluddin Khalji
4. * Balban

Question Number : 64 Question Id : 54592730162 Question Type : MCQ Option Shuffling : Yes
Correct Marks : 1 Wrong Marks : 0.25

निम्नलिखित में से दिल्ली सल्तनत के किस शासक ने मंगोल आक्रमण का मुकाबला करने के लिए अपने सैनिकों के लिए सिरी नामक एक नए छावनी गढ़ का निर्माण किया?

Options :

1. * मुहम्मद बिन तुगलक
2. ✓ अलाउद्दीन खिलजी
3. * जलालुद्दीन खिलजी
4. * बलबन

Question Number : 65 Question Id : 54592730163 Question Type : MCQ Option Shuffling : Yes
Correct Marks : 1 Wrong Marks : 0.25

Other than the name of a region, Basohli is also a form of

_____.

Options :

1. ✓ Painting
2. * Dance
3. * Music

4. * Theatre

Question Number : 65 Question Id : 54592730163 Question Type : MCQ Option Shuffling : Yes
Correct Marks : 1 Wrong Marks : 0.25

एक क्षेत्र के नाम के अलावा, बसोहली इसका एक रूप भी है:

Options :

1. ✓ चित्रकला
2. * नृत्य
3. * संगीत
4. * रंगमंच

Question Number : 66 Question Id : 54592730164 Question Type : MCQ Option Shuffling : Yes
Correct Marks : 1 Wrong Marks : 0.25

The "Blue Rebellion" took place in (i)_____ in the year (ii)_____.

Options :

1. * (i) Bihar (ii) 1854
2. ✓ (i) Bengal (ii) 1859
3. * (i) Bihar (ii) 1859
4. * (i) Bengal (ii) 1854

Question Number : 66 Question Id : 54592730164 Question Type : MCQ Option Shuffling : Yes
Correct Marks : 1 Wrong Marks : 0.25

"नील विद्रोह" (i) _____ में वर्ष (ii) _____ में हुआ था।

Options :

1. * (i) बिहार (ii) 1854
2. ✓ (i) बंगाल (ii) 1859
3. * (i) बिहार (ii) 1859
4. * (i) बंगाल (ii) 1854

Question Number : 67 Question Id : 54592730165 Question Type : MCQ Option Shuffling : Yes
Correct Marks : 1 Wrong Marks : 0.25

(i)_____ was announced as the Direct Action Day by the

(ii)_____.

Options :

1. ✓ (i) 16 August 1946 (ii) Muslim League

2. ✗ (i) 16 August 1946 (ii) Congress

3. ✗ (i) 16 August 1945 (ii) Congress

4. ✗ (i) 16 August 1945 (ii) Muslim League and Congress both

Question Number : 67 Question Id : 54592730165 Question Type : MCQ Option Shuffling : Yes

Correct Marks : 1 Wrong Marks : 0.25

(i) _____ को (ii) _____ द्वारा प्रत्यक्ष कार्रवाई दिवस के रूप में घोषित किया गया था।

Options :

1. ✓ (i) 16 अगस्त 1946 (ii) मुस्लिम लीग

2. ✗ (i) 16 अगस्त 1946 (ii) कांग्रेस

3. ✗ (i) 16 अगस्त 1945 (ii) कांग्रेस

4. ✗ (i) 16 अगस्त 1945 (ii) मुस्लिम लीग और कांग्रेस दोनों

Question Number : 68 Question Id : 54592730166 Question Type : MCQ Option Shuffling : Yes

Correct Marks : 1 Wrong Marks : 0.25

Sachin Bansal is the co-founder of _____.

Options :

1. ✗ PayTM

2. ✗ PhonePe

3. ✓ Flipkart

4. ✗ BHIM

Question Number : 68 Question Id : 54592730166 Question Type : MCQ Option Shuffling : Yes

Correct Marks : 1 Wrong Marks : 0.25

सचिन बंसल _____ के सह-संस्थापक हैं।

Options :

1. ✖ पेट्टीएम
2. ✖ फोन पे
3. ✔ फिलिपकार्ट
4. ✖ भीम

Question Number : 69 Question Id : 54592730167 Question Type : MCQ Option Shuffling : Yes
Correct Marks : 1 Wrong Marks : 0.25

Kyriakos Mitsotakis has been elected as the Prime Minister of _____.

Options :

1. ✔ Greece
2. ✖ France
3. ✖ Czechoslovakia
4. ✖ Brazil

Question Number : 69 Question Id : 54592730167 Question Type : MCQ Option Shuffling : Yes
Correct Marks : 1 Wrong Marks : 0.25

कायरियाकोस मित्सोताकिस को _____ के प्रधान मंत्री के रूप में चुना गया है।

Options :

1. ✔ ग्रीस
2. ✖ फ्रांस
3. ✖ चेकोस्लोवाकिया
4. ✖ ब्राज़िल

Question Number : 70 Question Id : 54592730168 Question Type : MCQ Option Shuffling : Yes
Correct Marks : 1 Wrong Marks : 0.25

How many people were conferred with the Padma Bhushan Award in the year 2019?

Note: For this question, discrepancy is found in question/answer. So, this question is ignored for all candidates.

Options :

1. 6
2. 7
3. 8
4. 9

Question Number : 70 Question Id : 54592730168 Question Type : MCQ Option Shuffling : Yes
Correct Marks : 1 Wrong Marks : 0.25

वर्ष 2019 में कितने लोगों को पद्म भूषण पुरस्कार से सम्मानित किया गया?

Note: For this question, discrepancy is found in question/answer. So, this question is ignored for all candidates.

Options :

1. 6
2. 7
3. 8
4. 9

Question Number : 71 Question Id : 54592730169 Question Type : MCQ Option Shuffling : Yes
Correct Marks : 1 Wrong Marks : 0.25

Which of the following book is not authored by Jeffrey Archer?

Options :

1. ✖ Sons of Fortune
2. ✖ Honour Among Thieves
3. ✖ False Impression
4. ✔ The Shining

Question Number : 71 Question Id : 54592730169 Question Type : MCQ Option Shuffling : Yes
Correct Marks : 1 Wrong Marks : 0.25

निम्नलिखित में से कौन सी पुस्तक जेफरी आर्चर द्वारा लिखित नहीं है?

Options :

1. * संस ऑफ फॉर्च्यून
2. * ऑनर अमंग थीव्ज़
3. * फाल्स इम्प्रेशन
4. ✓ द शाइनिंग

Question Number : 72 Question Id : 54592730170 Question Type : MCQ Option Shuffling : Yes

Correct Marks : 1 Wrong Marks : 0.25

Where is the secretariat of the BIMSTEC situated and how many members does it have?

Options :

1. * Dhaka, Five
2. * Delhi, Seven
3. ✓ Dhaka, Seven
4. * Delhi, Five

Question Number : 72 Question Id : 54592730170 Question Type : MCQ Option Shuffling : Yes

Correct Marks : 1 Wrong Marks : 0.25

बिम्सटेक का सचिवालय कहाँ स्थित है और उसके कितने सदस्य हैं?

Options :

1. * ढाका, पांच
2. * दिल्ली, सात
3. ✓ ढाका, सात
4. * दिल्ली, पाँच

Question Number : 73 Question Id : 54592730171 Question Type : MCQ Option Shuffling : Yes

Correct Marks : 1 Wrong Marks : 0.25

Dmitri Mendeleev is known for his contribution in the development of _____.

Options :

1. ✖ Calculators
2. ✖ Semiconductor chips
3. ✖ Vaccination
4. ✔ Periodic Table

Question Number : 73 Question Id : 54592730171 Question Type : MCQ Option Shuffling : Yes

Correct Marks : 1 Wrong Marks : 0.25

दिमित्री मेंडेलीव को _____ के विकास में उनके योगदान के लिए जाना जाता है:

Options :

1. ✖ कैलकुलेटर
2. ✖ अर्धचालक चिप
3. ✖ टीकाकरण
4. ✔ आवर्त सारणी

Question Number : 74 Question Id : 54592730172 Question Type : MCQ Option Shuffling : Yes

Correct Marks : 1 Wrong Marks : 0.25

Which of the following is not a feature of the federal form of Indian Constitution?

Options :

1. ✖ Dual Government (that is national government and regional government)
2. ✖ Division of powers between the national and regional government
3. ✔ Judiciary under the directly elected government
4. ✖ A rigid Constitution

Question Number : 74 Question Id : 54592730172 Question Type : MCQ Option Shuffling : Yes

Correct Marks : 1 Wrong Marks : 0.25

निम्नलिखित में से कौन सी भारतीय संविधान के संघीय रूप की विशेषता नहीं है?

Options :

1. * दोहरी सरकार (जो राष्ट्रीय सरकार और क्षेत्रीय सरकार है)।
2. * राष्ट्रीय और क्षेत्रीय सरकार के बीच शक्तियों का विभाजन।
3. ✓ सीधे निर्वाचित सरकार के अधीन न्यायपालिका।
4. * एक अनम्य संविधान।

Question Number : 75 Question Id : 54592730173 Question Type : MCQ Option Shuffling : Yes

Correct Marks : 1 Wrong Marks : 0.25

In which of the following Articles of the Indian Constitution are the duties of the Prime Minister enumerated?

Options :

1. * Article 75
2. ✓ Article 78
3. * Article 83
4. * Article 88

Question Number : 75 Question Id : 54592730173 Question Type : MCQ Option Shuffling : Yes

Correct Marks : 1 Wrong Marks : 0.25

भारतीय संविधान के निम्नलिखित में से किस अनुच्छेद में प्रधानमंत्री के कर्तव्य बताये गए हैं?

Options :

1. * अनुच्छेद 75
2. ✓ अनुच्छेद 78
3. * अनुच्छेद 83
4. * अनुच्छेद 88

Question Number : 76 Question Id : 54592730174 Question Type : MCQ Option Shuffling : Yes

Correct Marks : 1 Wrong Marks : 0.25

The 44th Amendment Act made a major change in Article 352. Which of the following is that change?

Options :

1. ✖ The operation of the National Emergency can be limited to a specified part of India.
2. ✔ The words 'Internal disturbances' were replaced with 'Armed rebellion'.
3. ✖ The declaration of a National Emergency was made immune from judicial review.
4. ✖ The Prime Minister was given the power to individually ask the President to declare a National Emergency.

Question Number : 76 Question Id : 54592730174 Question Type : MCQ Option Shuffling : Yes

Correct Marks : 1 Wrong Marks : 0.25

44वें संशोधन अधिनियम ने अनुच्छेद 352 में एक बड़ा परिवर्तन किया। यह निम्नलिखित में से कौन सा परिवर्तन है?

Options :

1. ✖ राष्ट्रीय आपातकाल का संचालन भारत के एक निर्दिष्ट हिस्से तक सीमित हो सकता है।
2. ✔ 'आंतरिक गड़बड़ी' शब्दों को 'सशस्त्र विद्रोह' से बदल दिया गया था।
3. ✖ राष्ट्रीय आपातकाल की घोषणा को न्यायिक समीक्षा से प्रतिरक्षा बनाया गया था।
4. ✖ प्रधानमंत्री को व्यक्तिगत रूप से राष्ट्रपति को राष्ट्रीय आपातकाल घोषित करने के लिए कहने की शक्ति दी गई थी।

Question Number : 77 Question Id : 54592730175 Question Type : MCQ Option Shuffling : Yes

Correct Marks : 1 Wrong Marks : 0.25

Which of the following Acts made the Governor-General of Bengal the Governor-General of India and vested in him all civil and military powers?

Options :

1. * Regulating Act of 1773
2. * Pitt's India Act of 1784
3. ✓ Charter Act of 1833
4. * Charter Act of 1853

Question Number : 77 Question Id : 54592730175 Question Type : MCQ Option Shuffling : Yes

Correct Marks : 1 Wrong Marks : 0.25

निम्नलिखित में से किस अधिनियम ने बंगाल के गवर्नर-जनरल को भारत का गवर्नर-जनरल बनाया और उसे सभी नागरिक और सैन्य शक्तियों में निहित किया?

Options :

1. * रेगुलेटिंग अधिनियम 1773
2. * पिट्स इंडिया एक्ट 1784
3. ✓ 1833 का अधिकार पत्र अधिनियम
4. * 1853 का अधिकार पत्र अधिनियम

Question Number : 78 Question Id : 54592730176 Question Type : MCQ Option Shuffling : Yes

Correct Marks : 1 Wrong Marks : 0.25

Who has been awarded the AIFF Women's Player of the Year 2018-19?

Options :

1. ✓ Ashalata Devi
2. * Bembem Devi
3. * Stephanie al-Naber
4. * Bala Devi

Question Number : 78 Question Id : 54592730176 Question Type : MCQ Option Shuffling : Yes
Correct Marks : 1 Wrong Marks : 0.25

वर्ष 2018-19 में एआईएफएफ महिला खिलाड़ी का पुरस्कार किसे दिया गया है?

Options :

1. ✓ आशालता देवी
2. ✗ बेमबेम देवी
3. ✗ स्टेफ़नी अल-नबेर
4. ✗ बाला देवी

Question Number : 79 Question Id : 54592730177 Question Type : MCQ Option Shuffling : Yes
Correct Marks : 1 Wrong Marks : 0.25

(i)_____ is the oldest Cricket Stadium in India, which is situated in (ii)_____.

Options :

1. ✗ (i) Brabourne Stadium (ii) Mumbai
2. ✗ (i) Ferozeshah Kotla (ii) Delhi
3. ✓ (i) Eden Gardens (ii) Kolkata
4. ✗ (i) Wankhede Stadium (ii) Mumbai

Question Number : 79 Question Id : 54592730177 Question Type : MCQ Option Shuffling : Yes
Correct Marks : 1 Wrong Marks : 0.25

(i) _____ भारत का सबसे पुराना क्रिकेट स्टेडियम है, जो (ii) _____ में स्थित है।

Options :

1. ✗ (i) ब्रेबॉर्न स्टेडियम (ii) मुंबई
2. ✗ (i) फिरोजशाह कोटला (ii) दिल्ली
3. ✓ (i) ईडन गार्डन (ii) कोलकाता
4. ✗ (i) वानखेड़े स्टेडियम (ii) मुंबई

Question Number : 80 Question Id : 54592730178 Question Type : MCQ Option Shuffling : Yes
Correct Marks : 1 Wrong Marks : 0.25

Who out of the following is a tennis player?

Options :

1. ✘ Alex Morgan
2. ✘ Meg Lanning
3. ✔ Simona Halep
4. ✘ Hope Solo

Question Number : 80 Question Id : 54592730178 Question Type : MCQ Option Shuffling : Yes
Correct Marks : 1 Wrong Marks : 0.25

निम्नलिखित में से कौन एक टेनिस खिलाड़ी है?

Options :

1. ✘ एलेक्स मॉर्गन
2. ✘ मेग लैनिंग
3. ✔ सिमोना हालेप
4. ✘ होप सोलो

Arithmetic Ability1

Group Number :	5
Group Id :	5459271495
Group Maximum Duration :	0
Group Minimum Duration :	0
Show Attended Group? :	No
Edit Attended Group? :	No
Break time:	0
Group Marks:	20
Is this Group for Examiner?:	No
Revisit allowed for group Instructions? :	Yes
Maximum Instruction Time:	0
Minimum Instruction Time:	0

Arithmetic Ability1

Section Id :	5459271495
Section Number :	1

Section type :	Online
Mandatory or Optional:	Mandatory
Number of Questions:	20
Number of Questions to be attempted:	20
Section Marks:	20

Sub-Section Number:	1
Sub-Section Id:	5459271793
Question Shuffling Allowed :	Yes

Question Number : 81 Question Id : 54592730179 Question Type : MCQ Option Shuffling : Yes
Correct Marks : 1 Wrong Marks : 0.25

What should come in place of the question mark (?) in the following question?

$$[(12)^2 + (?)^2] \div 125 = 3.2$$

Options :

1. ✖ 18
2. ✖ 14
3. ✖ 8
4. ✔ 16

Question Number : 81 Question Id : 54592730179 Question Type : MCQ Option Shuffling : Yes
Correct Marks : 1 Wrong Marks : 0.25

निम्नलिखित प्रश्न में प्रश्नवाचक चिन्ह (?) के स्थान पर क्या आना चाहिए?

$$[(12)^2 + (?)^2] \div 125 = 3.2$$

Options :

1. ✖ 18
2. ✖ 14
3. ✖ 8
4. ✔ 16

Question Number : 82 Question Id : 54592730180 Question Type : MCQ Option Shuffling : Yes
Correct Marks : 1 Wrong Marks : 0.25

What should come in place of the question mark (?) in the following question?

$$8^{0.4} \times 4^{1.6} \times 2^{1.6} = ?$$

Options :

1. ✖ 52

2. ✖ 48

3. ✔ 64

4. ✖ 76

Question Number : 82 Question Id : 54592730180 Question Type : MCQ Option Shuffling : Yes
Correct Marks : 1 Wrong Marks : 0.25

निम्नलिखित प्रश्न में प्रश्नवाचक चिन्ह (?) के स्थान पर क्या आना चाहिए?

$$8^{0.4} \times 4^{1.6} \times 2^{1.6} = ?$$

Options :

1. ✖ 52

2. ✖ 48

3. ✔ 64

4. ✖ 76

Question Number : 83 Question Id : 54592730181 Question Type : MCQ Option Shuffling : Yes
Correct Marks : 1 Wrong Marks : 0.25

What should come in place of the question mark (?) in the following question?

$$6\frac{1}{2} + 5\frac{1}{4} \times 1\frac{3}{7} = ?$$

Options :

1. ✖ $14\frac{1}{5}$

2. ✖ $13\frac{1}{3}$

3. ✔ 14

4. ✖ 15

Question Number : 83 Question Id : 54592730181 Question Type : MCQ Option Shuffling : Yes
Correct Marks : 1 Wrong Marks : 0.25

निम्नलिखित प्रश्न में प्रश्नवाचक चिन्ह (?) के स्थान पर क्या आना चाहिए?

$$6\frac{1}{2} + 5\frac{1}{4} \times 1\frac{3}{7} = ?$$

Options :

1. ✖ $14\frac{1}{5}$

2. ✖ $13\frac{1}{3}$

3. ✔ 14

4. ✖ 15

Question Number : 84 Question Id : 54592730182 Question Type : MCQ Option Shuffling : Yes
Correct Marks : 1 Wrong Marks : 0.25

What should come in place of the question mark (?) in the following question?

$$\frac{300}{10} \times \frac{20}{10} \times \frac{10}{10} \times \frac{50}{10} = ?$$

Options :

1. ✖ 200

2. ✖ 600

3. ✔ 300

4. ✖ 500

Question Number : 84 Question Id : 54592730182 Question Type : MCQ Option Shuffling : Yes
Correct Marks : 1 Wrong Marks : 0.25

प्रश्नवाचक चिन्ह (?) के स्थान पर कौन सा मान आयेगा?

$$\frac{300}{10} \times \frac{20}{10} \times \frac{10}{10} \times \frac{50}{10} = ?$$

Options :

1. ✖ 200

2. ✖ 600

3. ✔ 300

4. ✖ 500

Question Number : 85 Question Id : 54592730183 Question Type : MCQ Option Shuffling : Yes
Correct Marks : 1 Wrong Marks : 0.25

What should come in place of the question mark (?) in the following question?

$$348 \div 29 \times 15 + 156 = (?)^3 + 120$$

Options :

1. ✖ 12

2. ✔ 6

3. ✖ 36

4. ✖ 9

Question Number : 85 Question Id : 54592730183 Question Type : MCQ Option Shuffling : Yes
Correct Marks : 1 Wrong Marks : 0.25

प्रश्नवाचक चिन्ह (?) के स्थान पर कौन सा मान आयेगा?

$$348 \div 29 \times 15 + 156 = (?)^3 + 120$$

Options :

1. ✖ 12

2. ✔ 6

3. ✖ 36

4. ✖ 9

Question Number : 86 Question Id : 54592730184 Question Type : MCQ Option Shuffling : Yes

Correct Marks : 1 Wrong Marks : 0.25

The value of $2.4 \div 0.6 \times 3 + 2 \times 8$ is:

Options :

1. ✔ 28

2. ✖ 22

3. ✖ 16

4. ✖ 24

Question Number : 86 Question Id : 54592730184 Question Type : MCQ Option Shuffling : Yes

Correct Marks : 1 Wrong Marks : 0.25

$2.4 \div 0.6 \times 3 + 2 \times 8$ का मान है:

Options :

1. ✔ 28

2. ✖ 22

3. ✖ 16

4. ✖ 24

Question Number : 87 Question Id : 54592730185 Question Type : MCQ Option Shuffling : Yes

Correct Marks : 1 Wrong Marks : 0.25

A shopkeeper purchases some bulb for Rs. 180 and sold some of it for Rs. 105. Find the remaining bulb he has?

Options :

1. ✓ 5
2. ✗ 7
3. ✗ 12
4. ✗ 15

Question Number : 87 Question Id : 54592730185 Question Type : MCQ Option Shuffling : Yes
Correct Marks : 1 Wrong Marks : 0.25

एक दुकानदार ने कुछ बल्ब 180 रुपये में खरीदे और कुछ 105 रुपये में बेच दिए। बताइए दुकानदार के पास कितने बल्ब शेष हैं?

Options :

1. ✓ 5
2. ✗ 7
3. ✗ 12
4. ✗ 15

Question Number : 88 Question Id : 54592730186 Question Type : MCQ Option Shuffling : Yes
Correct Marks : 1 Wrong Marks : 0.25

Z is the largest 4 digit number, which when divided by 4, 5, 6 and 7 leaves remainder as 2, 3, 4, and 5 respectively. What will be the remainder when Z is divided by 11?

Options :

1. ✗ 1
2. ✓ 0
3. ✗ 4
4. ✗ 10

Question Number : 88 Question Id : 54592730186 Question Type : MCQ Option Shuffling : Yes
Correct Marks : 1 Wrong Marks : 0.25

Z, 4 अंकों की सबसे बड़ी संख्या है, जिसे 4, 5, 6 तथा 7 से विभाजित करने पर शेषफल क्रमशः 2, 3, 4 तथा 5 आता हैं। जब Z को 11 से विभाजित किया जाये, तो शेषफल क्या होगा?

Options :

1. ✖ 1
2. ✔ 0
3. ✖ 4
4. ✖ 10

Question Number : 89 Question Id : 54592730187 Question Type : MCQ Option Shuffling : Yes
Correct Marks : 1 Wrong Marks : 0.25

What least number must be added to 4000 to obtain a number exactly divisible by 17?

Options :

1. ✖ 15
2. ✖ 14
3. ✖ 13
4. ✔ 12

Question Number : 89 Question Id : 54592730187 Question Type : MCQ Option Shuffling : Yes
Correct Marks : 1 Wrong Marks : 0.25

4000 से कम-से-कम कौन सी संख्या जोड़नी चाहिए जिससे कि प्राप्त संख्या 17 से विभाजित हो?

Options :

1. ✖ 15
2. ✖ 14
3. ✖ 13
4. ✔ 12

Question Number : 90 Question Id : 54592730188 Question Type : MCQ Option Shuffling : Yes
Correct Marks : 1 Wrong Marks : 0.25

A number when divided by 361 leaves 23 as a remainder. The same number when divided by 19 leaves Y as the remainder. Find out the value of Y?

Options :

1. ✖ 5
2. ✖ 3
3. ✖ 1
4. ✔ 4

Question Number : 90 Question Id : 54592730188 Question Type : MCQ Option Shuffling : Yes
Correct Marks : 1 Wrong Marks : 0.25

जब किसी संख्या को 361 से विभाजित किया जाता है तो शेषफल 23 बचता है। जब इसी संख्या को 19 से विभाजित किया जाता है, तो Y शेषफल बचता है। Y का मान ज्ञात कीजिए।

Options :

1. ✖ 5
2. ✖ 3
3. ✖ 1
4. ✔ 4

Question Number : 91 Question Id : 54592730189 Question Type : MCQ Option Shuffling : Yes
Correct Marks : 1 Wrong Marks : 0.25

The average price of 18 pencils are Rs.9. If three pencils of prices Rs.4, Rs.7 and Rs.13 are excluded, what is the average price of the remaining pencils?

Options :

1. ✔ Rs. 9.2
2. ✖ Rs. 9.5
3. ✖ Rs. 8.7

4. * Rs. 10.3

Question Number : 91 Question Id : 54592730189 Question Type : MCQ Option Shuffling : Yes
Correct Marks : 1 Wrong Marks : 0.25

18 पेंसिल की औसत कीमत 9 रुपये है। यदि 4 रुपये, 7 रुपये और 13 रुपये मूल्य की तीन पेंसिलों को हटा दिया जाये, तो शेष पेंसिलों की औसत कीमत क्या है?

Options :

1. ✓ 9.2 रुपये
2. * 9.5 रुपये
3. * 8.7 रुपये
4. * 10.3 रुपये

Question Number : 92 Question Id : 54592730190 Question Type : MCQ Option Shuffling : Yes
Correct Marks : 1 Wrong Marks : 0.25

A Zoo has an average of 630 visitors on Sundays and 311 on other days. The average number of visitors per day in the month of February of 29 days beginning with a Monday is:

Options :

1. * 372
2. ✓ 355
3. * 402
4. * 428

Question Number : 92 Question Id : 54592730190 Question Type : MCQ Option Shuffling : Yes
Correct Marks : 1 Wrong Marks : 0.25

एक चिड़ियाघर में रविवार को औसतन 630 आगंतुक और अन्य दिनों औसतन में 311 आगंतुक आते हैं। सोमवार से शुरू होने वाले 29 दिनों के फरवरी के महीने में प्रति दिन आगंतुकों की औसत संख्या है:

Options :

1. ✖ 372

2. ✔ 355

3. ✖ 402

4. ✖ 428

Question Number : 93 Question Id : 54592730191 Question Type : MCQ Option Shuffling : Yes

Correct Marks : 1 Wrong Marks : 0.25

A shopkeeper marked the price of a coffee cup and a tea cup in the ratio 5 : 3. He sold them at 12% and 10% discount respectively. The difference between the selling prices of a coffee cup and a tea cup is Rs.85. What is the difference between their marked prices?

Options :

1. ✖ Rs. 200

2. ✔ Rs. 100

3. ✖ Rs. 150

4. ✖ Rs. 400

Question Number : 93 Question Id : 54592730191 Question Type : MCQ Option Shuffling : Yes

Correct Marks : 1 Wrong Marks : 0.25

एक दुकानदार ने 5: 3 के अनुपात में एक कॉफी कप और एक चाय के कप की कीमत को चिह्नित किया। उसने उन्हें क्रमशः 12% और 10% की छूट पर बेचा। एक कॉफी कप और एक चाय कप की बिक्री की कीमतों के बीच का अंतर 85 रुपये है। उनके अंकित मूल्यों के बीच अंतर क्या है?

Options :

1. ✖ 200 रुपये

2. ✔ 100 रुपये

3. * 150 रुपये

4. * 400 रुपये

Question Number : 94 Question Id : 54592730192 Question Type : MCQ Option Shuffling : Yes

Correct Marks : 1 Wrong Marks : 0.25

In an order to produce 12000 bulbs, a company produced 7.5% of the first 8000 bulbs defective and 4% of the next 4000 bulbs defective. Find out the total percent of non-defective bulbs produced by company?

Options :

1. * 6.33 percent

2. * 8 percent

3. ✓ 93.67 percent

4. * 92 percent

Question Number : 94 Question Id : 54592730192 Question Type : MCQ Option Shuffling : Yes

Correct Marks : 1 Wrong Marks : 0.25

12000 बल्बों का उत्पादन करने में, एक कंपनी ने पहले 8000 बल्बों में 7.5% बल्ब दोषपूर्ण और अगले 4000 बल्बों में 4% बल्ब दोषपूर्ण उत्पादित किये। कुल उत्पादन का कितना प्रतिशत, कंपनी ने गैर-दोषपूर्ण बल्बों का उत्पादन किया?

Options :

1. * 6.33 प्रतिशत

2. * 8 प्रतिशत

3. ✓ 93.67 प्रतिशत

4. * 92 प्रतिशत

Question Number : 95 Question Id : 54592730193 Question Type : MCQ Option Shuffling : Yes

Correct Marks : 1 Wrong Marks : 0.25

The population of a colony increased by 8% in the first year and increased by 10% in the second year. Now the population is 5346. What was the population of the colony two years ago?

Options :

1. ✖ 4100
2. ✖ 3800
3. ✖ 4250
4. ✔ 4500

Question Number : 95 Question Id : 54592730193 Question Type : MCQ Option Shuffling : Yes

Correct Marks : 1 Wrong Marks : 0.25

एक कॉलोनी की आबादी पहले वर्ष में 8% बढ़ी और दूसरे वर्ष में 10% बढ़ी। अब जनसंख्या 5346 है। दो साल पहले कॉलोनी की जनसंख्या कितनी थी?

Options :

1. ✖ 4100
2. ✖ 3800
3. ✖ 4250
4. ✔ 4500

Question Number : 96 Question Id : 54592730194 Question Type : MCQ Option Shuffling : Yes

Correct Marks : 1 Wrong Marks : 0.25

Of the three students A, B and C, A scored 60% more than C. B scored 25% more than C. The sum of the marks of all the three is 770. Find the score of A.

Options :

1. ✔ 320
2. ✖ 250
3. ✖ 330

4. ✖ 275

Question Number : 96 Question Id : 54592730194 Question Type : MCQ Option Shuffling : Yes
Correct Marks : 1 Wrong Marks : 0.25

तीन छात्रों A, B और C में से, A ने C से 60 % अधिक अंक प्राप्त किए. B ने C से 25 % अधिक अंक प्राप्त किए । तीनों के अंकों का योग 770 है। A के प्राप्त अंक ज्ञात करें।

Options :

1. ✔ 320

2. ✖ 250

3. ✖ 330

4. ✖ 275

Question Number : 97 Question Id : 54592730195 Question Type : MCQ Option Shuffling : Yes
Correct Marks : 1 Wrong Marks : 0.25

Amar bought some mangoes at the rate of Rs.26 per four mangoes and same number of mangoes at the rate of Rs.51 per six mangoes. He sold all the mangoes at the rate of Rs.45 per five mangoes. What is his profit percentage?

Options :

1. ✖ 25 percent

2. ✖ 16.67 percent

3. ✖ 15 percent

4. ✔ 20 percent

Question Number : 97 Question Id : 54592730195 Question Type : MCQ Option Shuffling : Yes
Correct Marks : 1 Wrong Marks : 0.25

अमर ने कुछ आमों को 26 रुपये प्रति चार आमों की दर से खरीदा और आमों की इतनी ही संख्या को 51 रुपये प्रति छह आमों की दर से खरीदा। उसने सभी आमों को 45 रुपये प्रति पांच आम की दर से बेचा। उसका लाभ प्रतिशत क्या है?

Options :

1. ✖ 25 प्रतिशत
2. ✖ 16.67 प्रतिशत
3. ✖ 15 प्रतिशत
4. ✔ 20 प्रतिशत

Question Number : 98 Question Id : 54592730196 Question Type : MCQ Option Shuffling : Yes

Correct Marks : 1 Wrong Marks : 0.25

The marked price of a product is Rs.900 more than its cost price. When a discount of Rs.500 is given then the percentage of profit is $15\frac{5}{13}\%$. At what price should it be sold to obtain 40% profit?

Options :

1. ✔ Rs. 3640
2. ✖ Rs. 2600
3. ✖ Rs. 2850
4. ✖ Rs. 3100

Question Number : 98 Question Id : 54592730196 Question Type : MCQ Option Shuffling : Yes

Correct Marks : 1 Wrong Marks : 0.25

किसी उत्पाद की चिह्नित कीमत उसकी लागत मूल्य से रु.900 अधिक है। जब रु.500 की छूट दी जाती है तो लाभ का प्रतिशत $15\frac{5}{13}\%$ होता है। 40% लाभ प्राप्त करने के लिए इसे किस मूल्य पर बेचा जाना चाहिए?

Options :

1. ✔ 3640 रुपये
2. ✖ 2600 रुपये

3. * 2850 रुपये

4. * 3100 रुपये

Question Number : 99 Question Id : 54592730197 Question Type : MCQ Option Shuffling : Yes

Correct Marks : 1 Wrong Marks : 0.25

A shopkeeper bought a LED TV marked at Rs.21000 after two successive discounts of 20% and 5% respectively. He spent Rs.800 for its delivery to his shop and sold for a profit of 15%. What will be its selling price?

Options :

1. * Rs. 18400

2. ✓ Rs. 19274

3. * Rs. 20144

4. * Rs. 21235

Question Number : 99 Question Id : 54592730197 Question Type : MCQ Option Shuffling : Yes

Correct Marks : 1 Wrong Marks : 0.25

एक दुकानदार ने क्रमशः 20% और 5% की दो छूट के बाद 21000 रुपये में अंकित एक एलईडी टीवी खरीदा। उसने अपनी दुकान पर डिलीवरी के लिए 800 रुपये खर्च किए और 15% के लाभ पर बेच दिया। इसका विक्रय मूल्य क्या होगा?

Options :

1. * 18400 रुपये

2. ✓ 19274 रुपये

3. * 20144 रुपये

4. * 21235 रुपये

Question Number : 100 Question Id : 54592730198 Question Type : MCQ Option Shuffling : Yes

Correct Marks : 1 Wrong Marks : 0.25

The ratio of weights of three friends Vivek, Vikas and Vikram is 14 : 15 : 17. The sum of the weights of Vivek and Vikram is 40 kg more than the weight of Vikas. Find the weight of Vikas.

Options :

1. ✖ 30 kg
2. ✖ 45 kg
3. ✔ 37.5 kg
4. ✖ 22.5 kg

Question Number : 100 Question Id : 54592730198 Question Type : MCQ Option Shuffling : Yes

Correct Marks : 1 Wrong Marks : 0.25

तीन दोस्तों विवेक, विकास और विक्रम के वजन का अनुपात 14: 15: 17 है। विवेक और विक्रम के वजन का योग विकास के वजन से 40 किलो अधिक है। विकास का वजन ज्ञात कीजिये।

Options :

1. ✖ 30 किलो
2. ✖ 45 किलो
3. ✔ 37.5 किलो
4. ✖ 22.5 किलो

Arithmetic Ability2

Group Number :	6
Group Id :	5459271496
Group Maximum Duration :	0
Group Minimum Duration :	0
Show Attended Group? :	No
Edit Attended Group? :	No
Break time:	0
Group Marks:	20
Is this Group for Examiner?:	No
Revisit allowed for group Instructions? :	Yes
Maximum Instruction Time:	0
Minimum Instruction Time:	0

Arithmetic Ability2

Section Id :	5459271496
Section Number :	1
Section type :	Online
Mandatory or Optional:	Mandatory
Number of Questions:	20
Number of Questions to be attempted:	20
Section Marks:	20

Sub-Section Number:	1
Sub-Section Id:	5459271794
Question Shuffling Allowed :	Yes

Question Number : 101 Question Id : 54592730199 Question Type : MCQ Option Shuffling : Yes
Correct Marks : 1 Wrong Marks : 0.25

The ratio of present ages of A and B is 6 : t. Five years ago the age of B was 28 years. The sum of their ages after two years will be 55 years. What is the value of t?

Options :

1. ✖ 15
2. ✖ 6
3. ✖ 13
4. ✔ 11

Question Number : 101 Question Id : 54592730199 Question Type : MCQ Option Shuffling : Yes
Correct Marks : 1 Wrong Marks : 0.25

A और B की वर्तमान आयु का अनुपात 6: t है। पांच साल पहले B की उम्र 28 साल थी। दो वर्ष के बाद उनकी आयु का योग 55 वर्ष होगा। t का मान क्या है?

Options :

1. ✖ 15
2. ✖ 6
3. ✖ 13
4. ✔ 11

Question Number : 102 Question Id : 54592730200 Question Type : MCQ Option Shuffling : Yes

Correct Marks : 1 Wrong Marks : 0.25

In an examination, a student got selected if he secured 324 marks out of maximum marks P. If the maximum marks are 700, then the student would have secured 567 marks. What is the value of P?

Options :

1. ✖ 500

2. ✖ 600

3. ✔ 400

4. ✖ 550

Question Number : 102 Question Id : 54592730200 Question Type : MCQ Option Shuffling : Yes

Correct Marks : 1 Wrong Marks : 0.25

एक परीक्षा में, एक छात्र चयनित हो गया यदि उसने अधिकतम अंकों P में से 324 अंक प्राप्त किए। यदि अधिकतम अंक 700 हैं, तो छात्र ने 567 अंक प्राप्त किए होंगे। P का मान क्या है?

Options :

1. ✖ 500

2. ✖ 600

3. ✔ 400

4. ✖ 550

Question Number : 103 Question Id : 54592730201 Question Type : MCQ Option Shuffling : Yes

Correct Marks : 1 Wrong Marks : 0.25

What amount of compound interest can be earned on Rs.10500 at the end of two years if the rate of interest for the first years is $14\frac{2}{7}$ % per annum and 12% per annum for the second year?

Note: For this question, discrepancy is found in question/answer. So, this question is ignored for all candidates.

Options :

1. Rs. 4620

2. Rs. 4550

3. Rs. 4800

4. Rs. 5110

Question Number : 103 Question Id : 54592730201 Question Type : MCQ Option Shuffling : Yes
Correct Marks : 1 Wrong Marks : 0.25

दो वर्ष के अंत में रु.10500 की कुल राशि पर कितना चक्रवृद्धि ब्याज अर्जित किया जा सकता है यदि प्रथम वर्ष के लिए ब्याज की दर $14\frac{2}{7}\%$ प्रति वर्ष और दूसरे वर्ष के लिए 12% प्रति वर्ष है?

Note: For this question, discrepancy is found in question/answer. So, this question is ignored for all candidates.

Options :

1. 4620 रुपये

2. 4550 रुपये

3. 4800 रुपये

4. 5110 रुपये

Question Number : 104 Question Id : 54592730202 Question Type : MCQ Option Shuffling : Yes
Correct Marks : 1 Wrong Marks : 0.25

In three years Rs.7000 amounts to Rs.9940 on simple interest at $r\%$ per annum. In what time will Rs.4200 amounts to Rs.5964 on simple interest at $r\%$ per six months?

Options :

1. * 2 years

2. * 1 year

3. ✓ $1\frac{1}{2}$ years

4. * $2\frac{1}{2}$ years

Question Number : 104 Question Id : 54592730202 Question Type : MCQ Option Shuffling : Yes

Correct Marks : 1 Wrong Marks : 0.25

तीन वर्ष में 7000 रुपये साधारण ब्याज पर r % प्रति वर्ष की दर से 9940 रुपये हो जाता है। कितने समय में 4,200 रुपये की राशि r प्रतिशत प्रति छह महीने की दर से 5964 रुपये हो जाएगी?

Options :

1. ✖ 2 वर्ष

2. ✖ 1 वर्ष

3. ✔ $1\frac{1}{2}$ वर्ष

4. ✖ $2\frac{1}{2}$ वर्ष

Question Number : 105 Question Id : 54592730203 Question Type : MCQ Option Shuffling : Yes

Correct Marks : 1 Wrong Marks : 0.25

The difference between the compound interest and simple interest on an amount of Rs. 18000 in two years is Rs. 405. What would be the compound interest accrued on an amount of Rs. 8000 at same rate of interest for 2 years?

Options :

1. ✖ Rs. 2140

2. ✖ Rs. 2260

3. ✖ Rs. 2400

4. ✔ Rs. 2580

Question Number : 105 Question Id : 54592730203 Question Type : MCQ Option Shuffling : Yes

Correct Marks : 1 Wrong Marks : 0.25

दो वर्ष में 18000 रुपये की राशि पर चक्रवृद्धि ब्याज और साधारण ब्याज के बीच का अंतर 405 रुपये है। 2 वर्ष के लिए समान ब्याज दर पर 8000 रुपये की राशि पर अर्जित चक्रवृद्धि ब्याज क्या होगा?

Options :

1. ✖ 2140 रुपये
2. ✖ 2260 रुपये
3. ✖ 2400 रुपये
4. ✔ 2580 रुपये

Question Number : 106 Question Id : 54592730204 Question Type : MCQ Option Shuffling : Yes

Correct Marks : 1 Wrong Marks : 0.25

In covering a certain distance, the speed of Ankita and Babita are in the ratio of 3 : 4. Ankita takes 30 minutes more than Babita to reach the destination. The time taken by Ankita to reach the destination is:

Options :

1. ✖ 1 hour
2. ✖ $1\frac{1}{2}$ hour
3. ✔ 2 hours
4. ✖ $2\frac{1}{2}$ hour

Question Number : 106 Question Id : 54592730204 Question Type : MCQ Option Shuffling : Yes

Correct Marks : 1 Wrong Marks : 0.25

एक निश्चित यात्रा को करने के लिये अंकिता तथा बबीता की गतियों का अनुपात 3 : 4 है। अंकिता गंतव्य तक पहुँचने में बबीता से 30 मिनट अधिक लेती है। बताये अंकिता द्वारा लिया गया समय कितना है?

Options :

1. ✖ 1 घंटा

2. ✖ $1\frac{1}{2}$ घंटा

3. ✔ 2 घंटा

4. ✖ $2\frac{1}{2}$ घंटा

Question Number : 107 Question Id : 54592730205 Question Type : MCQ Option Shuffling : Yes
Correct Marks : 1 Wrong Marks : 0.25

Walking at 5 km/hr Shiv reaches his school from his house 15 minutes early and walking at 3 km/hr he is late by 9 minutes. What is the distance between his school and his house?

Options :

1. ✖ 6 km

2. ✖ 4 km

3. ✔ 3 km

4. ✖ 5 km

Question Number : 107 Question Id : 54592730205 Question Type : MCQ Option Shuffling : Yes
Correct Marks : 1 Wrong Marks : 0.25

5 किमी/घंटा की गति से अपने घर से स्कूल जाने पर शिव 15 मिनट जल्दी पहुँचता है तथा 3 किमी/घंटा से जाने पर 9 मिनट देर हो जाता है। उसके घर से पाठशाला के बीच की दूरी ज्ञात करें।

Options :

1. ✖ 6 किमी

2. ✖ 4 किमी

3. ✔ 3 किमी

4. ✖ 5 किमी

Question Number : 108 Question Id : 54592730206 Question Type : MCQ Option Shuffling : Yes
Correct Marks : 1 Wrong Marks : 0.25

The distance between two cities Rampur and Shyampur is 330 km. A train starts from Rampur at 8 a.m. and travels towards Shyampur at 60 km/hr. Another train starts from Shyampur at 9 a.m. and travels towards Rampur at 75 km/hr. At what time do they meet?

Options :

1. ✖ 10:30 AM
2. ✖ 10:45 AM
3. ✔ 11:00 AM
4. ✖ 11:45 AM

Question Number : 108 Question Id : 54592730206 Question Type : MCQ Option Shuffling : Yes
Correct Marks : 1 Wrong Marks : 0.25

दो स्थानों रामपुर तथा श्यामपुर के बीच की दूरी 330 किमी. है। एक रेलगाड़ी रामपुर से प्रातः 8 बजे 60 किमी/घंटे की गति से श्यामपुर की ओर तथा एक अन्य रेलगाड़ी प्रातः 9 बजे श्यामपुर से रामपुर की ओर 75 किमी/घंटे की गति से चलती है। बतायें किस समय वे मिलेंगी?

Options :

1. ✖ 10:30 AM
2. ✖ 10:45 AM
3. ✔ 11:00 AM
4. ✖ 11:45 AM

Question Number : 109 Question Id : 54592730207 Question Type : MCQ Option Shuffling : Yes
Correct Marks : 1 Wrong Marks : 0.25

E, F & G can do a work in 12, 15 & 30 days. They all together start the work, after 3 days E left the work, next after 2 days F left the work. Then in how many days, G completes the rest work.

Options :

1. ✖ 8 days

2. ✖ 12 days

3. ✔ $7\frac{1}{2}$ days

4. ✖ 6 days

Question Number : 109 Question Id : 54592730207 Question Type : MCQ Option Shuffling : Yes

Correct Marks : 1 Wrong Marks : 0.25

E, F व G किसी काम को 12, 15 व 30 दिनों में कर सकते हैं। वे सभी साथ काम शुरू करते हैं। 3 दिन बाद E काम छोड़ देता है, अगले 2 दिन बाद F काम छोड़ देता है। शेष काम G कितने दिनों में पूरा करेगा?

Options :

1. ✖ 8 दिन

2. ✖ 12 दिन

3. ✔ $7\frac{1}{2}$ दिन

4. ✖ 6 दिन

Question Number : 110 Question Id : 54592730208 Question Type : MCQ Option Shuffling : Yes

Correct Marks : 1 Wrong Marks : 0.25

7 Indian and 4 Chinese finish a job in 5 days. 7 Japanese and 3 Chinese finish the same job in 7 days. Given that the efficiency of each person of a particular nationality is same but different from others. Two Indian, two Chinese and two Japanese will complete the work in?

Options :

1. ✖ $10\frac{5}{12}$ days

2. ✔ $10\frac{5}{24}$ days

3. ✖ $10\frac{6}{14}$ days

4. ✖ $10\frac{7}{12}$ days

Question Number : 110 Question Id : 54592730208 Question Type : MCQ Option Shuffling : Yes

Correct Marks : 1 Wrong Marks : 0.25

7 भारतीय तथा 4 चार्इनीज कोर्इ कार्य को 5 दिन में करते है। 7 जापानीज तथा 3 चार्इनीज उसी कार्य को 7 दिन में पूरा करते हैं। दिया गया है कि प्रत्येक राष्ट्र के सभी व्यक्तियों की कार्यक्षमता एक समान है, किंतु अन्य राष्ट्र के व्यक्तियों से भिन्न है तो ज्ञात कीजिए 2 भारतीय, 2 चार्इनीज तथा 2 जापानी उसी कार्य को कितने दिनों में पूरा करेगे?

Options :

1. ✖ $10\frac{5}{12}$ दिन

2. ✓ $10\frac{5}{24}$ दिन

3. ✗ $10\frac{6}{14}$ दिन

4. ✗ $10\frac{7}{12}$ दिन

Question Number : 111 Question Id : 54592730209 Question Type : MCQ Option Shuffling : Yes
Correct Marks : 1 Wrong Marks : 0.25

A can do $\frac{1}{4}$ of a work in 10 days. B can do $\frac{1}{3}$ of the work in 20 days. In how many days can both A and B together do half of the work?

Options :

1. ✓ 12 days

2. ✗ 18 days

3. ✗ 6 days

4. ✗ 24 days

Question Number : 111 Question Id : 54592730209 Question Type : MCQ Option Shuffling : Yes
Correct Marks : 1 Wrong Marks : 0.25

A एक कार्य के $\frac{1}{4}$ भाग को 10 दिन में कर सकता है। B कार्य के $\frac{1}{3}$ भाग को 20 दिन में कर सकता है। A और B दोनों मिलकर उस कार्य का आधा कितने दिन में कर सकते हैं?

Options :

1. ✓ 12 दिन

2. ✗ 18 दिन

3. ✗ 6 दिन

4. ✖ 24 दिन

Question Number : 112 Question Id : 54592730210 Question Type : MCQ Option Shuffling : Yes
Correct Marks : 1 Wrong Marks : 0.25

The sector of a circle has radius of 28 cm and central angle 90. Find its perimeter.

Options :

1. ✖ 78 cm
2. ✔ 100 cm
3. ✖ 56 cm
4. ✖ 28 cm

Question Number : 112 Question Id : 54592730210 Question Type : MCQ Option Shuffling : Yes
Correct Marks : 1 Wrong Marks : 0.25

किसी वृत्तखंड की त्रिज्या 28 सेमी और केंद्रीय कोण 90 है। इसकी परिधि ज्ञात कीजिए।

Options :

1. ✖ 78 सेमी
2. ✔ 100 सेमी
3. ✖ 56 सेमी
4. ✖ 28 सेमी

Question Number : 113 Question Id : 54592730211 Question Type : MCQ Option Shuffling : Yes
Correct Marks : 1 Wrong Marks : 0.25

The surface area of the three coterminous faces of a cuboid are 12, 18, 6 square cm respectively. Find the volume of the cuboid.

Options :

1. ✖ 24 cube cm
2. ✖ 32 cube cm
3. ✔ 36 cube cm

4. * 42 cube cm

Question Number : 113 Question Id : 54592730211 Question Type : MCQ Option Shuffling : Yes
Correct Marks : 1 Wrong Marks : 0.25

एक घनाभ के तीन संलग्न सतह का क्षेत्रफल क्रमशः 12, 18, 6 वर्ग सेमी है। घनाभ का आयतन ज्ञात कीजिए।

Options :

1. * 24 घन सेमी
2. * 32 घन सेमी
3. ✓ 36 घन सेमी
4. * 42 घन सेमी

Question Number : 114 Question Id : 54592730212 Question Type : MCQ Option Shuffling : Yes
Correct Marks : 1 Wrong Marks : 0.25

If an error of 10% excess is made in calculating the side of a square, the % error in its area is :

Options :

1. * 12 Percent
2. ✓ 21 Percent
3. * 20 Percent
4. * 14 Percent

Question Number : 114 Question Id : 54592730212 Question Type : MCQ Option Shuffling : Yes
Correct Marks : 1 Wrong Marks : 0.25

यदि किसी वर्ग के भुजा की गणना करने में 10% अधिक मापी जाती है, तो उसके क्षेत्रफल में प्रतिशत त्रुटि है:

Options :

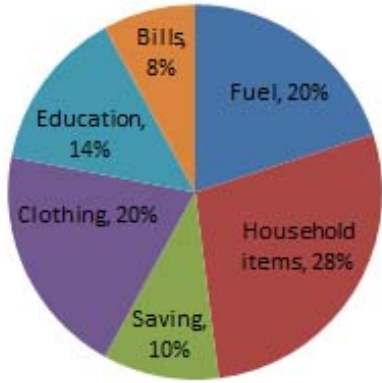
1. * 12 प्रतिशत
2. ✓ 21 प्रतिशत
3. * 20 प्रतिशत

4. * 14 प्रतिशत

Question Number : 115 Question Id : 54592730213 Question Type : MCQ Option Shuffling : Yes

Correct Marks : 1 Wrong Marks : 0.25

In the given figure, If monthly income is Rs 50000, then how much is spent (in Rs) on Fuel?



Options :

1. * 12000

2. ✓ 10000

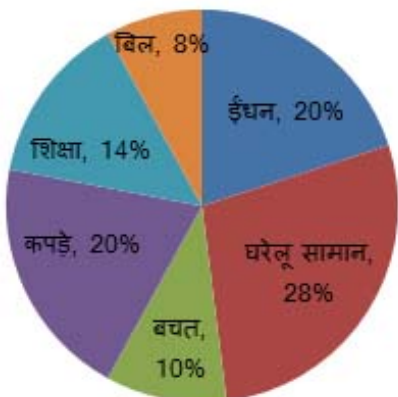
3. * 13500

4. * 15000

Question Number : 115 Question Id : 54592730213 Question Type : MCQ Option Shuffling : Yes

Correct Marks : 1 Wrong Marks : 0.25

दिये गए चित्र में यदि मासिक आय 50000 रुपये है, तो ईंधन पर कितना व्यय (रुपये में) कितना हुआ है?



Options :

1. ✖ 12000

2. ✔ 10000

3. ✖ 13500

4. ✖ 15000

Question Number : 116 Question Id : 54592730214 Question Type : MCQ Option Shuffling : Yes

Correct Marks : 1 Wrong Marks : 0.25

Study the table carefully and answer the questions given below:

Yearly production (in thousands) of scooters in different factories

Factory	1985	1986	1987	1988	1989
P	20	15	24	13	17
Q	16	23	41	20	15
R	14	21	30	16	12
S	25	17	15	12	22
T	40	32	39	41	35
Total	115	108	149	102	101

In which year, the production of scooters of all factories was equal to the yearly average number of scooters produced during 1985-89?

Options :

1. ✔ 1985

2. ✖ 1986

3. ✖ 1987

4. ✖ 1988

Question Number : 116 Question Id : 54592730214 Question Type : MCQ Option Shuffling : Yes

Correct Marks : 1 Wrong Marks : 0.25

निम्न सारणी की सहायता से प्रश्नों के उत्तर दीजिए। वार्षिक उत्पादन (विभिन्न कारखानों में स्कूटरों की संख्या हजारों में)

कारखाना	1985	1986	1987	1988	1989
P	20	15	24	13	17
Q	16	23	41	20	15
R	14	21	30	16	12
S	25	17	15	12	22
T	40	32	39	41	35
कुल	115	108	149	102	101

किस वर्ष में सभी कारखानों में स्कूटरों की संख्या 1985 से 1989 के अवधि में औसत संख्या के बराबर थी?

Options :

1. ✓ 1985
2. ✗ 1986
3. ✗ 1987
4. ✗ 1988

Question Number : 117 Question Id : 54592730215 Question Type : MCQ Option Shuffling : Yes
Correct Marks : 1 Wrong Marks : 0.25

Study the following graph carefully to answer these questions:

Water level of three Rivers (in meters) in three different Months

	Ganga	Yamuna	Narmada
Jan	196	202	196
Feb	205	224	210
March	230	211	230

What was the respective ratio between the water level of Narmada in March and the water level of Yamuna in Jan?

Options :

1. ✖ 105 : 91

2. ✖ 115 : 27

3. ✔ 115 : 101

4. ✖ 112 : 17

Question Number : 117 Question Id : 54592730215 Question Type : MCQ Option Shuffling : Yes

Correct Marks : 1 Wrong Marks : 0.25

निम्नलिखित प्रश्नों का उत्तर देने के लिए सावधानीपूर्वक ग्राफ का अध्ययन करें।

अलग-अलग तीन महीनों में तीन नदियों का जलस्तर (मीटर में)

	गंगा	यमुना	नर्मदा
जनवरी	196	202	196
फरवरी	205	224	210
मार्च	230	211	230

मार्च में नर्मदा के जलस्तर और जनवरी में यमुना के जलस्तर के बीच क्रमशः अनुपात क्या था?

Options :

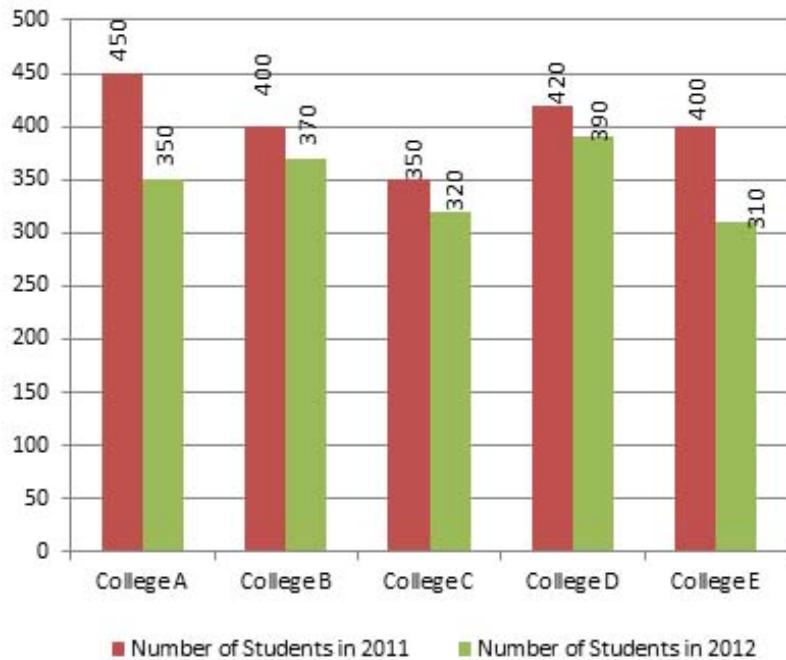
1. ✖ 105 : 91
2. ✖ 115 : 27
3. ✔ 115 : 101
4. ✖ 112 : 17

Question Number : 118 Question Id : 54592730216 Question Type : MCQ Option Shuffling : Yes

Correct Marks : 1 Wrong Marks : 0.25

Study the following graph carefully to answer these questions:

The given graph represents the data of students who studied in different colleges.



If 10% of the students studying in college B did not take the exam in 2011, then find the number of such students.

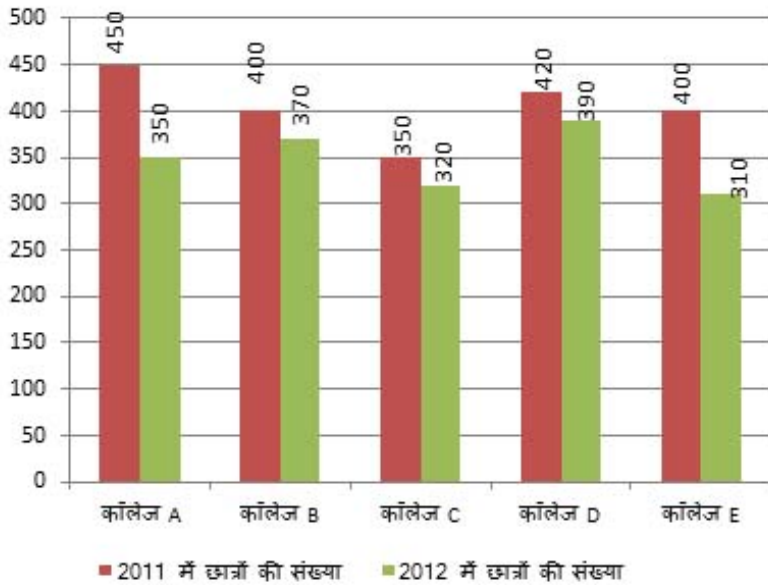
Options :

1. ✖ 35
2. ✖ 36
3. ✔ 40
4. ✖ 38

Question Number : 118 Question Id : 54592730216 Question Type : MCQ Option Shuffling : Yes
Correct Marks : 1 Wrong Marks : 0.25

निम्नलिखित प्रश्नों का उत्तर देने के लिए सावधानीपूर्वक ग्राफ का अध्ययन करें।

दिया गया ग्राफ छात्रों के आंकड़े को दर्शाता है, जो विभिन्न कॉलेज में पढ़ते हैं।



यदि कॉलेज B में पढ़ रहे 10% छात्र 2011 में परीक्षा नहीं देते हैं, तो ऐसे छात्र की संख्या ज्ञात करें।

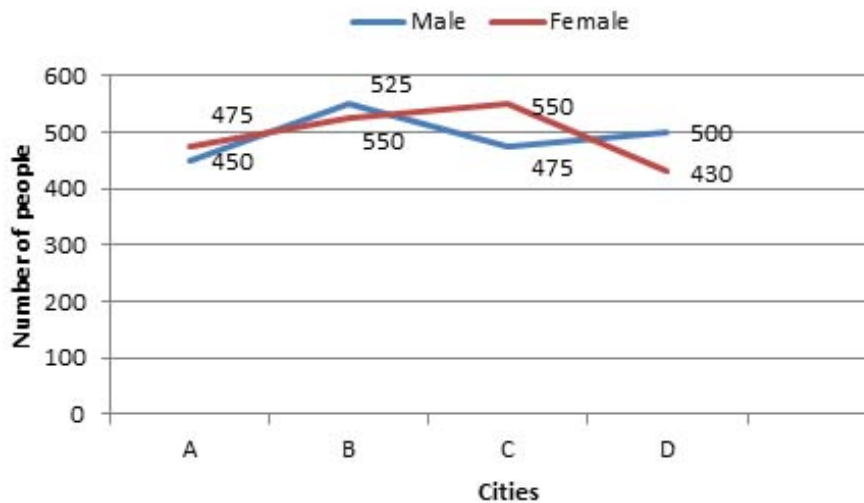
Options :

1. ✘ 35
2. ✘ 36
3. ✔ 40
4. ✘ 38

Question Number : 119 Question Id : 54592730217 Question Type : MCQ Option Shuffling : Yes
Correct Marks : 1 Wrong Marks : 0.25

Study the following graph carefully to answer these questions:

Number of male and female participating in a function from different cities A, B, C, and D



The number of female participating in the Function from city B is approximately what percent of the total number of people participating in the Function from that city?

Options :

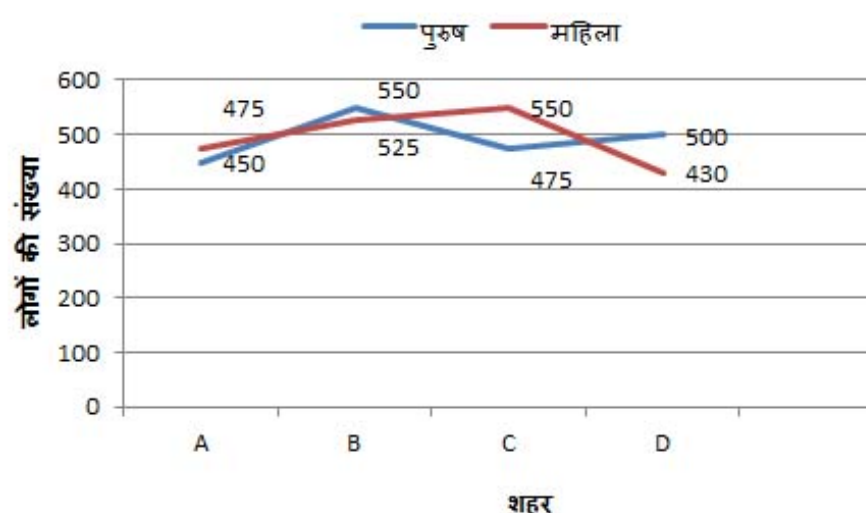
1. ✓ 49 percent
2. ✗ 47 percent
3. ✗ 45 percent
4. ✗ 43 percent

Question Number : 119 Question Id : 54592730217 Question Type : MCQ Option Shuffling : Yes

Correct Marks : 1 Wrong Marks : 0.25

निम्नलिखित प्रश्नों का उत्तर देने के लिए सावधानीपूर्वक ग्राफ का अध्ययन करें।

शहर A, B, C और D से एक समारोह में भाग लेने वाले पुरुष और महिला की संख्या



शहर B से समारोह में भाग ले रहे महिलाओं की संख्या, उसी शहर से समारोह में भाग ले रहे कुल लोगों की संख्या का कितना प्रतिशत है?

Options :

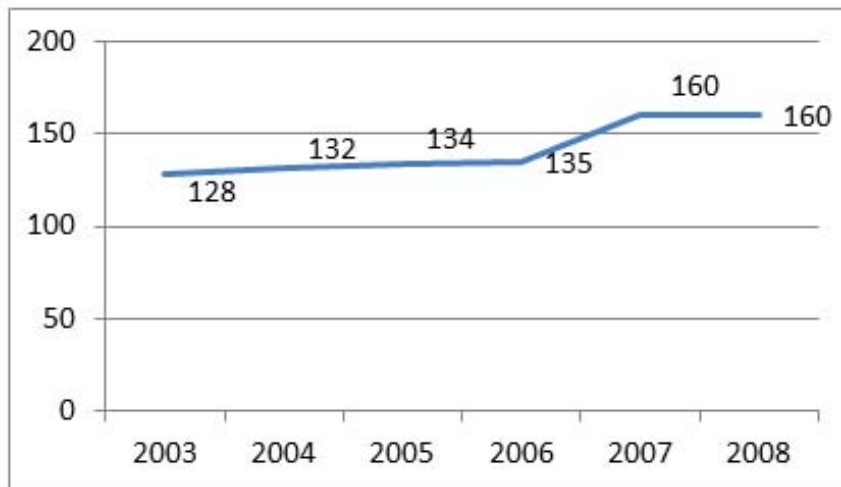
1. ✓ 49 प्रतिशत
2. ✗ 47 प्रतिशत
3. ✗ 45 प्रतिशत
4. ✗ 43 प्रतिशत

Question Number : 120 Question Id : 54592730218 Question Type : MCQ Option Shuffling : Yes

Correct Marks : 1 Wrong Marks : 0.25

Study the following graph carefully to answer these questions:

Population (in thousands) of a State over the years



What is the approximate percentage rise in population of state in 2007 from 2004?

Options :

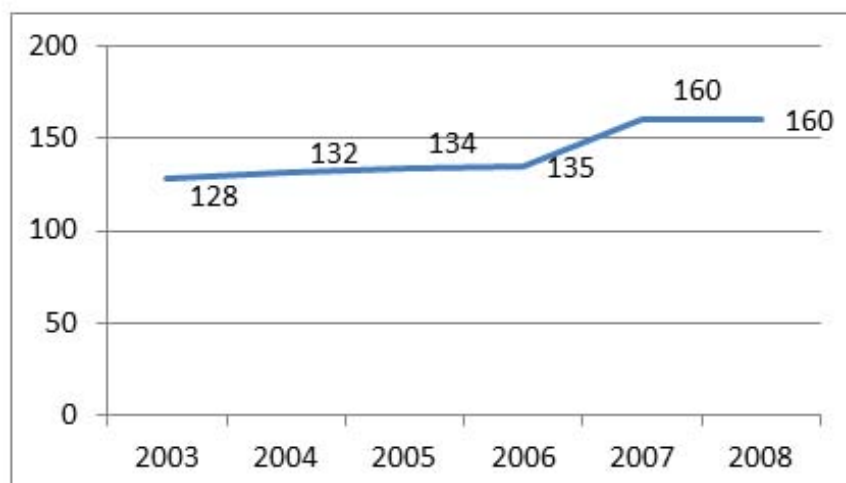
1. ✘ 25
2. ✘ 30
3. ✘ 28
4. ✔ 21

Question Number : 120 Question Id : 54592730218 Question Type : MCQ Option Shuffling : Yes

Correct Marks : 1 Wrong Marks : 0.25

निम्नलिखित प्रश्नों का उत्तर देने के लिए सावधानीपूर्वक निम्नलिखित ग्राफ का अध्ययन करें।

दिए गए वर्षों में एक राज्य की जनसंख्या (हजारों में)



2004 से 2007 में राज्य की जनसंख्या में लगभग कितने प्रतिशत की वृद्धि हुई?

Options :

1. ✘ 25
2. ✘ 30
3. ✘ 28
4. ✔ 21

General English1

Group Number :	7
Group Id :	5459271497
Group Maximum Duration :	0
Group Minimum Duration :	0
Show Attended Group? :	No
Edit Attended Group? :	No
Break time:	0

Group Marks:	20
Is this Group for Examiner?:	No
Revisit allowed for group Instructions? :	Yes
Maximum Instruction Time:	0
Minimum Instruction Time:	0

General English1

Section Id :	5459271497
Section Number :	1
Section type :	Online
Mandatory or Optional:	Mandatory
Number of Questions:	20
Number of Questions to be attempted:	20
Section Marks:	20

Sub-Section Number:	1
Sub-Section Id:	5459271795
Question Shuffling Allowed :	Yes

Question Number : 121 Question Id : 54592730219 Question Type : MCQ Option Shuffling : Yes
Correct Marks : 1 Wrong Marks : 0.25

Identify the segment in the sentence which contains the grammatical error from the given options.

Once the wettest place on Earth, Cherrapunji, a town in northeastern India, has face a drought each winter for the past few years.

Options :

1. ✖ Once the wettest place
2. ✖ a town in northeastern India,
3. ✔ has face a drought each winter
4. ✖ for the past few years.

Question Number : 121 Question Id : 54592730219 Question Type : MCQ Option Shuffling : Yes
Correct Marks : 1 Wrong Marks : 0.25

Identify the segment in the sentence which contains the grammatical error from the given options:

Once the wettest place on Earth, Cherrapunji, a town in northeastern India, has face a drought each winter for the past few years.

Options :

1. ✖ Once the wettest place
2. ✖ a town in northeastern India,
3. ✔ has face a drought each winter
4. ✖ for the past few years.

Question Number : 122 Question Id : 54592730220 Question Type : MCQ Option Shuffling : Yes
Correct Marks : 1 Wrong Marks : 0.25

Identify the segment in the sentence which contains the grammatical error from the given options.

A new study shows that goats can differentiate between other goats' happiness and displeasure by listening to its voices.

Options :

1. ✖ A new study shows that goats
2. ✖ can differentiate between other goats'
3. ✖ happiness and displeasure by
4. ✔ listening to its voices.

Question Number : 122 Question Id : 54592730220 Question Type : MCQ Option Shuffling : Yes
Correct Marks : 1 Wrong Marks : 0.25

Identify the segment in the sentence which contains the grammatical error from the given options:

A new study shows that goats can differentiate between other goats' happiness and displeasure by listening to its voices.

Options :

1. ✖ A new study shows that goats
2. ✖ can differentiate between other goats'
3. ✖ happiness and displeasure by
4. ✔ listening to its voices.

Question Number : 123 Question Id : 54592730221 Question Type : MCQ Option Shuffling : Yes
Correct Marks : 1 Wrong Marks : 0.25

Identify the segment in the sentence which contains the grammatical error from the given options.

The groundwater that provides an invaluable buffer between monsoons is severely depleted and in danger of irreversibly lost.

Options :

1. ✖ The groundwater that provides
2. ✖ an invaluable buffer between monsoons
3. ✖ is severely depleted and
4. ✔ in danger of irreversibly lost.

Question Number : 123 Question Id : 54592730221 Question Type : MCQ Option Shuffling : Yes
Correct Marks : 1 Wrong Marks : 0.25

Identify the segment in the sentence which contains the grammatical error from the given options:

The groundwater that provides an invaluable buffer between monsoons is severely depleted and in danger of irreversibly lost.

Options :

1. ✖ The groundwater that provides
2. ✖ an invaluable buffer between monsoons
3. ✖ is severely depleted and
4. ✔ in danger of irreversibly lost.

Question Number : 124 Question Id : 54592730222 Question Type : MCQ Option Shuffling : Yes
Correct Marks : 1 Wrong Marks : 0.25

Identify the segment in the sentence which contains the grammatical error from the given options.

How animals perceive the world round them is still a mystery to us in so many ways.

Options :

1. ✖ How animals perceive
2. ✔ the world round them
3. ✖ is still a mystery to
4. ✖ us in so many ways.

Question Number : 124 Question Id : 54592730222 Question Type : MCQ Option Shuffling : Yes
Correct Marks : 1 Wrong Marks : 0.25

Identify the segment in the sentence which contains the grammatical error from the given options:

How animals perceive the world round them is still a mystery to us in so many ways.

Options :

1. ✖ How animals perceive
2. ✔ the world round them
3. ✖ is still a mystery to
4. ✖ us in so many ways.

Question Number : 125 Question Id : 54592730223 Question Type : MCQ Option Shuffling : Yes

Correct Marks : 1 Wrong Marks : 0.25

Identify the segment in the sentence which contains the grammatical error from the given options.

Kerala, a state in the southwest, flooded devastatingly in 2018, and saw its wells run dry soon after.

Options :

1. ✖ Kerala, a state in the
2. ✖ southwest, flooded devastatingly
3. ✔ in 2018, and saw its wells
4. ✖ run dry soon after.

Question Number : 125 Question Id : 54592730223 Question Type : MCQ Option Shuffling : Yes

Correct Marks : 1 Wrong Marks : 0.25

Identify the segment in the sentence which contains the grammatical error from the given options:

Kerala, a state in the southwest, flooded devastatingly in 2018, and saw its wells run dry soon after.

Options :

1. ✖ Kerala, a state in the
2. ✖ southwest, flooded devastatingly
3. ✔ in 2018, and saw its wells
4. ✖ run dry soon after.

Question Number : 126 Question Id : 54592730224 Question Type : MCQ Option Shuffling : Yes

Correct Marks : 1 Wrong Marks : 0.25

Select the most appropriate option to substitute the underlined segment in the given sentence. If there is no need to substitute it, select option No substitution required.

Plastic wrap contributes to the larger plastic pollution crisis, it's difficult to recycle, and its make from potentially harmful chemicals.

Options :

1. ✔ it's made from
2. ✖ its make for
3. ✖ it's make from
4. ✖ No substitution required

Question Number : 126 Question Id : 54592730224 Question Type : MCQ Option Shuffling : Yes

Correct Marks : 1 Wrong Marks : 0.25

Select the most appropriate option to substitute the underlined segment in the given sentence. If there is no need to substitute it, select option No substitution required.

Plastic wrap contributes to the larger plastic pollution crisis, it's difficult to recycle, and its make from potentially harmful chemicals.

Options :

1. ✓ it's made from
2. ✗ its make for
3. ✗ it's make from
4. ✗ No substitution required

Question Number : 127 Question Id : 54592730225 Question Type : MCQ Option Shuffling : Yes
Correct Marks : 1 Wrong Marks : 0.25

Select the most appropriate option to substitute the underlined segment in the given sentence. If there is no need to substitute it, select option No substitution required.

The subspecies of giraffes has decline by nearly 50 percent in the last 30 years, largely because of poaching and changes in land use.

Options :

1. ✗ have decline by near 50 percent
2. ✓ have declined by nearly 50 percent
3. ✗ has decline by near 50 percent
4. ✗ No substitution required

Question Number : 127 Question Id : 54592730225 Question Type : MCQ Option Shuffling : Yes
Correct Marks : 1 Wrong Marks : 0.25

Select the most appropriate option to substitute the underlined segment in the given sentence. If there is no need to substitute it, select option No substitution required.

The subspecies of giraffes has decline by nearly 50 percent in the last 30 years, largely because of poaching and changes in land use.

Options :

1. ✖ have decline by near 50 percent
2. ✔ have declined by nearly 50 percent
3. ✖ has decline by near 50 percent
4. ✖ No substitution required

Question Number : 128 Question Id : 54592730226 Question Type : MCQ Option Shuffling : Yes
Correct Marks : 1 Wrong Marks : 0.25

Select the most appropriate option to substitute the underlined segment in the given sentence. If there is no need to substitute it, select option No substitution required.

Giraffe deaths have also increased because human populations has grow and expand into what used to be wild lands.

Options :

1. ✖ has grown and expand into
2. ✖ have grow and expanded
3. ✔ have grown and expanded into

4. ✖ No substitution required

Question Number : 128 Question Id : 54592730226 Question Type : MCQ Option Shuffling : Yes

Correct Marks : 1 Wrong Marks : 0.25

Select the most appropriate option to substitute the underlined segment in the given sentence. If there is no need to substitute it, select option No substitution required.

Giraffe deaths have also increased because human populations has grow and expand into what used to be wild lands.

Options :

1. ✖ has grown and expand into
2. ✖ have grow and expanded
3. ✔ have grown and expanded into
4. ✖ No substitution required

Question Number : 129 Question Id : 54592730227 Question Type : MCQ Option Shuffling : Yes

Correct Marks : 1 Wrong Marks : 0.25

Select the most appropriate option to substitute the underlined segment in the given sentence. If there is no need to substitute it, select option No substitution required.

In order to make plastics softer, more flexible, and more transparent, they are often mixed with plasticizers, particularly for food packaging.

Options :

1. ✖ it is often mixed from
2. ✖ they are often mix with

3. ✖ its often mix for

4. ✔ No substitution required

Question Number : 129 Question Id : 54592730227 Question Type : MCQ Option Shuffling : Yes
Correct Marks : 1 Wrong Marks : 0.25

Select the most appropriate option to substitute the underlined segment in the given sentence. If there is no need to substitute it, select option No substitution required.

In order to make plastics softer, more flexible, and more transparent, they are often mixed with plasticizers, particularly for food packaging.

Options :

1. ✖ it is often mixed from

2. ✖ they are often mix with

3. ✖ its often mix for

4. ✔ No substitution required

Question Number : 130 Question Id : 54592730228 Question Type : MCQ Option Shuffling : Yes
Correct Marks : 1 Wrong Marks : 0.25

Select the most appropriate option to substitute the underlined segment in the given sentence. If there is no need to substitute it, select option No substitution required.

We didn't have plastic 70 years ago, and then in the post-war boom, you had chemists whose were going to provided us with this brave new world.

Options :

1. ✔ who were going to provide us with

2. ✖ whom was going to provided us with

3. ✖ who were going to provided us with

4. ✖ No substitution required

Question Number : 130 Question Id : 54592730228 Question Type : MCQ Option Shuffling : Yes
Correct Marks : 1 Wrong Marks : 0.25

Select the most appropriate option to substitute the underlined segment in the given sentence. If there is no need to substitute it, select option No substitution required.

We didn't have plastic 70 years ago, and then in the post-war boom, you had chemists whose were going to provided us with this brave new world.

Options :

1. ✔ who were going to provide us with

2. ✖ whom was going to provided us with

3. ✖ who were going to provided us with

4. ✖ No substitution required

Question Number : 131 Question Id : 54592730229 Question Type : MCQ Option Shuffling : Yes
Correct Marks : 1 Wrong Marks : 0.25

Select the most appropriate word to fill in the blank.

The uneven distribution of population in the world has severely _____ the fragile ecological balance in many countries.

Options :

1. ✔ affected

2. ✖ effected

3. ✖ affect

4. ✖ effect

Question Number : 131 Question Id : 54592730229 Question Type : MCQ Option Shuffling : Yes
Correct Marks : 1 Wrong Marks : 0.25

Select the most appropriate word to fill in the blank.

The uneven distribution of population in the world has severely _____ the fragile ecological balance in many countries.

Options :

1. ✔ affected

2. ✖ effected

3. ✖ affect

4. ✖ effect

Question Number : 132 Question Id : 54592730230 Question Type : MCQ Option Shuffling : Yes
Correct Marks : 1 Wrong Marks : 0.25

Select the most appropriate word to fill in the blank.

India being a democratic welfare state is committed _____ provide jobs for as many people as it can.

Options :

1. ✖ for

2. ✔ to

3. ✖ in

4. ✖ by

Question Number : 132 Question Id : 54592730230 Question Type : MCQ Option Shuffling : Yes
Correct Marks : 1 Wrong Marks : 0.25

Select the most appropriate word to fill in the blank.

India being a democratic welfare state is committed _____ provide jobs for as many people as it can.

Options :

1. ✘ for

2. ✔ to

3. ✘ in

4. ✘ by

Question Number : 133 Question Id : 54592730231 Question Type : MCQ Option Shuffling : Yes

Correct Marks : 1 Wrong Marks : 0.25

Select the most appropriate word to fill in the blank.

The alarming trend of migration and the exorbitant rental value do not permit the urban poor to afford a roof _____ their heads.

Options :

1. ✘ upon

2. ✘ beyond

3. ✔ over

4. ✘ along

Question Number : 133 Question Id : 54592730231 Question Type : MCQ Option Shuffling : Yes

Correct Marks : 1 Wrong Marks : 0.25

Select the most appropriate word to fill in the blank.

The alarming trend of migration and the exorbitant rental value do not permit the urban poor to afford a roof _____ their heads.

Options :

1. ✘ upon
2. ✘ beyond
3. ✔ over
4. ✘ along

Question Number : 134 Question Id : 54592730232 Question Type : MCQ Option Shuffling : Yes

Correct Marks : 1 Wrong Marks : 0.25

Select the most appropriate word to fill in the blank.

Child labour can't be totally eradicated _____ it is supplemented by comprehensive socio-economic programmes.

Options :

1. ✘ if
2. ✘ but
3. ✘ as if
4. ✔ unless

Question Number : 134 Question Id : 54592730232 Question Type : MCQ Option Shuffling : Yes

Correct Marks : 1 Wrong Marks : 0.25

Select the most appropriate word to fill in the blank.

Child labour can't be totally eradicated _____ it is supplemented by comprehensive socio-economic programmes.

Options :

1. ✖ if

2. ✖ but

3. ✖ as if

4. ✔ unless

Question Number : 135 Question Id : 54592730233 Question Type : MCQ Option Shuffling : Yes

Correct Marks : 1 Wrong Marks : 0.25

Select the most appropriate word to fill in the blank.

Wages are now paid to prisoners at some places but the amount earned is nominal and _____ offers any incentive or encouragement.

Options :

1. ✔ hardly

2. ✖ grimly

3. ✖ evenly

4. ✖ extremely

Question Number : 135 Question Id : 54592730233 Question Type : MCQ Option Shuffling : Yes

Correct Marks : 1 Wrong Marks : 0.25

Select the most appropriate word to fill in the blank.

Wages are now paid to prisoners at some places but the amount earned is nominal and _____ offers any incentive or encouragement.

Options :

1. ✓ hardly
2. ✗ grimly
3. ✗ evenly
4. ✗ extremely

Question Number : 136 Question Id : 54592730234 Question Type : MCQ Option Shuffling : Yes

Correct Marks : 1 Wrong Marks : 0.25

Select the most appropriate word to fill in the blank.

The deterrent value of death penalty has been a subject of intense _____ inconclusive debate.

Options :

1. ✗ since
2. ✓ though
3. ✗ even if
4. ✗ until

Question Number : 136 Question Id : 54592730234 Question Type : MCQ Option Shuffling : Yes

Correct Marks : 1 Wrong Marks : 0.25

Select the most appropriate word to fill in the blank.

The deterrent value of death penalty has been a subject of intense _____ inconclusive debate.

Options :

1. ✘ since
2. ✔ though
3. ✘ even if
4. ✘ until

Question Number : 137 Question Id : 54592730235 Question Type : MCQ Option Shuffling : Yes

Correct Marks : 1 Wrong Marks : 0.25

Select the most appropriate word to fill in the blank.

_____ the fact that the capture and sale of spiny butterfly rays are illegal, it is one of the main threats faced by them.

Options :

1. ✘ In spite
2. ✘ Unless
3. ✔ Despite
4. ✘ Beside

Question Number : 137 Question Id : 54592730235 Question Type : MCQ Option Shuffling : Yes

Correct Marks : 1 Wrong Marks : 0.25

Select the most appropriate word to fill in the blank.

_____ the fact that the capture and sale of spiny butterfly rays are illegal, it is one of the main threats faced by them.

Options :

1. ✖ In spite
2. ✖ Unless
3. ✔ Despite
4. ✖ Beside

Question Number : 138 Question Id : 54592730236 Question Type : MCQ Option Shuffling : Yes

Correct Marks : 1 Wrong Marks : 0.25

Select the most appropriate word to fill in the blank.

The aquarium has the role of showing people threatened species and helping them understand the importance of _____ conservation.

Options :

1. ✖ its
2. ✖ theirs
3. ✖ there
4. ✔ their

Question Number : 138 Question Id : 54592730236 Question Type : MCQ Option Shuffling : Yes

Correct Marks : 1 Wrong Marks : 0.25

Select the most appropriate word to fill in the blank.

The aquarium has the role of showing people threatened species and helping them understand the importance of _____ conservation.

Options :

1. ✘ its
2. ✘ theirs
3. ✘ there
4. ✔ their

Question Number : 139 Question Id : 54592730237 Question Type : MCQ Option Shuffling : Yes

Correct Marks : 1 Wrong Marks : 0.25

Rearrange the following sentences in their correct order to form a meaningful paragraph.

A: I report what I see at boot level along the pathways of our original discovery of the planet.

B: In the winter of 2013 I set out from an ancient site and began retracing, on foot, the defining journey of humankind.

C: From the start, I knew my route would be vague.

D: My long walk is about storytelling

Options :

1. ✔ BDAC
2. ✘ BACD
3. ✘ BCAD
4. ✘ BCDA

Question Number : 139 Question Id : 54592730237 Question Type : MCQ Option Shuffling : Yes

Correct Marks : 1 Wrong Marks : 0.25

Rearrange the following sentences in their correct order to form a meaningful paragraph.

A: I report what I see at boot level along the pathways of our original discovery of the planet.

B: In the winter of 2013 I set out from an ancient site and began retracing, on foot, the defining journey of humankind.

C: From the start, I knew my route would be vague.

D: My long walk is about storytelling

Options :

1. ✓ BDAC

2. ✗ BACD

3. ✗ BCAD

4. ✗ BCDA

Question Number : 140 Question Id : 54592730238 Question Type : MCQ Option Shuffling : Yes

Correct Marks : 1 Wrong Marks : 0.25

A sentence has four parts, rearrange the given parts so as to form a meaningful sentence.

A: A quarter of Bangalore's population,

B: is not connected to the river water supply

C: living mostly on its periphery,

D: and is forced to mine groundwater to survive.

Options :

1. ✗ ADCB

2. ✓ ACBD

3. ✖ ABCD

4. ✖ ACDB

Question Number : 140 Question Id : 54592730238 Question Type : MCQ Option Shuffling : Yes
Correct Marks : 1 Wrong Marks : 0.25

A sentence has four parts, rearrange the given parts so as to form a meaningful sentence.

A: A quarter of Bangalore's population,

B: is not connected to the river water supply

C: living mostly on its periphery,

D: and is forced to mine groundwater to survive.

Options :

1. ✖ ADCB

2. ✔ ACBD

3. ✖ ABCD

4. ✖ ACDB

General English2

Group Number :	8
Group Id :	5459271498
Group Maximum Duration :	0
Group Minimum Duration :	0
Show Attended Group? :	No
Edit Attended Group? :	No
Break time:	0
Group Marks:	20
Is this Group for Examiner?:	No
Revisit allowed for group Instructions? :	Yes
Maximum Instruction Time:	0
Minimum Instruction Time:	0

General English2

Section Id :	5459271498
Section Number :	1
Section type :	Online
Mandatory or Optional:	Mandatory
Number of Questions:	16
Number of Questions to be attempted:	16
Section Marks:	20

Sub-Section Number:	1
Sub-Section Id:	5459271796
Question Shuffling Allowed :	Yes

Question Number : 141 Question Id : 54592730239 Question Type : MCQ Option Shuffling : Yes
Correct Marks : 1 Wrong Marks : 0.25

Rearrange the following sentences in their correct order to form a meaningful paragraph.

A: The most dramatic part of the eclipse arriving at 5:31 p.m. ET.

B: Observers in Europe and Africa will witness the lunar disappearing act on the night of July 16.

C: Now, 50 years to the day, people on Earth will be able to commemorate that moment by watching the moon undergo a deep partial eclipse.

D: On July 16, 1969, the crew of the Apollo 11 mission launched on their historic trip to land the first humans on the moon.

Options :

1. ✖ DBCA
2. ✖ DABC
3. ✔ DCBA
4. ✖ DCAB

Question Number : 141 Question Id : 54592730239 Question Type : MCQ Option Shuffling : Yes

Correct Marks : 1 Wrong Marks : 0.25

Rearrange the following sentences in their correct order to form a meaningful paragraph.

A: The most dramatic part of the eclipse arriving at 5:31 p.m. ET.

B: Observers in Europe and Africa will witness the lunar disappearing act on the night of July 16.

C: Now, 50 years to the day, people on Earth will be able to commemorate that moment by watching the moon undergo a deep partial eclipse.

D: On July 16, 1969, the crew of the Apollo 11 mission launched on their historic trip to land the first humans on the moon.

Options :

1. ✘ DBCA

2. ✘ DABC

3. ✔ DCBA

4. ✘ DCAB

Question Number : 142 Question Id : 54592730240 Question Type : MCQ Option Shuffling : Yes

Correct Marks : 1 Wrong Marks : 0.25

Select the synonym of the given word.

Crooked

Options :

1. ✔ Twisted

2. ✖ Scattered

3. ✖ Radiant

4. ✖ Approved

Question Number : 142 Question Id : 54592730240 Question Type : MCQ Option Shuffling : Yes
Correct Marks : 1 Wrong Marks : 0.25

Select the synonym of the given word.

Crooked

Options :

1. ✔ Twisted

2. ✖ Scattered

3. ✖ Radiant

4. ✖ Approved

Question Number : 143 Question Id : 54592730241 Question Type : MCQ Option Shuffling : Yes
Correct Marks : 1 Wrong Marks : 0.25

Select the antonym of the given word.

Consolidate

Options :

1. ✖ Strengthen

2. ✔ Weaken

3. ✖ Approve

4. ✖ Disapprove

Question Number : 143 Question Id : 54592730241 Question Type : MCQ Option Shuffling : Yes
Correct Marks : 1 Wrong Marks : 0.25

Select the antonym of the given word.

Consolidate

Options :

1. ✖ Strengthen
2. ✔ Weaken
3. ✖ Approve
4. ✖ Disapprove

Question Number : 144 Question Id : 54592730242 Question Type : MCQ Option Shuffling : Yes
Correct Marks : 1 Wrong Marks : 0.25

Select the synonym of the given word.

Palatable

Options :

1. ✖ Determined
2. ✖ Celebrated
3. ✔ Satisfactory
4. ✖ Laughable

Question Number : 144 Question Id : 54592730242 Question Type : MCQ Option Shuffling : Yes
Correct Marks : 1 Wrong Marks : 0.25

Select the synonym of the given word.

Palatable

Options :

1. ✖ Determined
2. ✖ Celebrated

3. ✓ Satisfactory

4. ✖ Laughable

Question Number : 145 Question Id : 54592730243 Question Type : MCQ Option Shuffling : Yes
Correct Marks : 1 Wrong Marks : 0.25

Select the antonym of the given word.

Boisterous

Options :

1. ✓ Restrained

2. ✖ Reactive

3. ✖ Indecent

4. ✖ Probable

Question Number : 145 Question Id : 54592730243 Question Type : MCQ Option Shuffling : Yes
Correct Marks : 1 Wrong Marks : 0.25

Select the antonym of the given word.

Boisterous

Options :

1. ✓ Restrained

2. ✖ Reactive

3. ✖ Indecent

4. ✖ Probable

Question Number : 146 Question Id : 54592730244 Question Type : MCQ Option Shuffling : Yes
Correct Marks : 1 Wrong Marks : 0.25

Select the synonym of the given word.

Top-notch

Options :

1. ✖ Pointed
2. ✔ Excellent
3. ✖ Genuine
4. ✖ Obscene

Question Number : 146 Question Id : 54592730244 Question Type : MCQ Option Shuffling : Yes
Correct Marks : 1 Wrong Marks : 0.25

Select the synonym of the given word.

Top-notch

Options :

1. ✖ Pointed
2. ✔ Excellent
3. ✖ Genuine
4. ✖ Obscene

Question Number : 147 Question Id : 54592730245 Question Type : MCQ Option Shuffling : Yes
Correct Marks : 1 Wrong Marks : 0.25

Select the wrongly spelt word.

Options :

1. ✔ Durable
2. ✖ Ductile
3. ✖ Consign

4. ✖ Egotist

Question Number : 147 Question Id : 54592730245 Question Type : MCQ Option Shuffling : Yes
Correct Marks : 1 Wrong Marks : 0.25

Select the wrongly spelt word.

Options :

1. ✔ Durable
2. ✖ Ductile
3. ✖ Consign
4. ✖ Egotist

Question Number : 148 Question Id : 54592730246 Question Type : MCQ Option Shuffling : Yes
Correct Marks : 1 Wrong Marks : 0.25

Select the wrongly spelt word.

Options :

1. ✖ Extort
2. ✔ Irksome
3. ✖ Fervid
4. ✖ Jaundice

Question Number : 148 Question Id : 54592730246 Question Type : MCQ Option Shuffling : Yes
Correct Marks : 1 Wrong Marks : 0.25

Select the wrongly spelt word.

Options :

1. ✖ Extort
2. ✔ Irksome
3. ✖ Fervid
4. ✖ Jaundice

Question Number : 149 Question Id : 54592730247 Question Type : MCQ Option Shuffling : Yes
Correct Marks : 1 Wrong Marks : 0.25

Select the wrongly spelt word.

Options :

1. ✖ Pedant
2. ✖ Pogrom
3. ✔ Seccede
4. ✖ Rivulet

Question Number : 149 Question Id : 54592730247 Question Type : MCQ Option Shuffling : Yes
Correct Marks : 1 Wrong Marks : 0.25

Select the wrongly spelt word.

Options :

1. ✖ Pedant
2. ✖ Pogrom
3. ✔ Seccede
4. ✖ Rivulet

Question Number : 150 Question Id : 54592730248 Question Type : MCQ Option Shuffling : Yes
Correct Marks : 1 Wrong Marks : 0.25

Select the meaning of the given idiom.

Slap on the wrist

Options :

1. ✔ A mild punishment or warning
2. ✖ To attack physically
3. ✖ To annoy somebody
4. ✖ Ask for money

Question Number : 150 Question Id : 54592730248 Question Type : MCQ Option Shuffling : Yes
Correct Marks : 1 Wrong Marks : 0.25

Select the meaning of the given idiom.

Slap on the wrist

Options :

1. ✓ A mild punishment or warning.
2. ✗ To attack physically.
3. ✗ To annoy somebody.
4. ✗ Ask for money.

Question Number : 151 Question Id : 54592730249 Question Type : MCQ Option Shuffling : Yes
Correct Marks : 1 Wrong Marks : 0.25

Select the meaning of the given idiom.

Keep your chin up

Options :

1. ✗ To stay confident
2. ✓ To improve one's mood
3. ✗ To be late
4. ✗ To be in a bad mood

Question Number : 151 Question Id : 54592730249 Question Type : MCQ Option Shuffling : Yes
Correct Marks : 1 Wrong Marks : 0.25

Select the meaning of the given idiom.

Keep your chin up

Options :

1. ✗ To stay confident.
2. ✓ To improve one's mood.

3. ✖ To be late.

4. ✖ To be in a bad mood.

Question Number : 152 Question Id : 54592730250 Question Type : MCQ Option Shuffling : Yes
Correct Marks : 1 Wrong Marks : 0.25

Select the meaning of the given idiom.

Hold your horses

Options :

1. ✖ To avoid making a guess

2. ✖ To hurry

3. ✔ To be patient

4. ✖ To take rest

Question Number : 152 Question Id : 54592730250 Question Type : MCQ Option Shuffling : Yes
Correct Marks : 1 Wrong Marks : 0.25

Select the meaning of the given idiom.

Hold your horses

Options :

1. ✖ To avoid making a guess.

2. ✖ To hurry.

3. ✔ To be patient.

4. ✖ To take rest.

Question Number : 153 Question Id : 54592730251 Question Type : MCQ Option Shuffling : Yes
Correct Marks : 1 Wrong Marks : 0.25

Select the word which means the same as the group of words given.

An obsessive desire to set fire to things.

Options :

1. ✓ Pyromania
2. ✗ Megalomania
3. ✗ Kleptomania
4. ✗ Dipsomania

Question Number : 153 Question Id : 54592730251 Question Type : MCQ Option Shuffling : Yes
Correct Marks : 1 Wrong Marks : 0.25

Select the word which means the same as the group of words given.

An obsessive desire to set fire to things.

Options :

1. ✓ Pyromania
2. ✗ Megalomania
3. ✗ Kleptomania
4. ✗ Dipsomania

Question Number : 154 Question Id : 54592730252 Question Type : MCQ Option Shuffling : Yes
Correct Marks : 1 Wrong Marks : 0.25

Select the word which means the same as the group of words given.

A person who abandons a religious or political belief or principle.

Options :

1. ✖ Cannibal
2. ✔ Apostate
3. ✖ Traitor
4. ✖ Fatalist

Question Number : 154 Question Id : 54592730252 Question Type : MCQ Option Shuffling : Yes
Correct Marks : 1 Wrong Marks : 0.25

Select the word which means the same as the group of words given.

A person who abandons a religious or political belief or principle.

Options :

1. ✖ Cannibal
2. ✔ Apostate
3. ✖ Traitor
4. ✖ Fatalist

Question Number : 155 Question Id : 54592730253 Question Type : MCQ Option Shuffling : Yes
Correct Marks : 1 Wrong Marks : 0.25

Select the word which means the same as the group of words given.

The action of killing a king

Options :

1. ✖ Fratricide
2. ✖ Infanticide
3. ✔ Regicide
4. ✖ Matricide

Question Number : 155 Question Id : 54592730253 Question Type : MCQ Option Shuffling : Yes

Correct Marks : 1 Wrong Marks : 0.25

Select the word which means the same as the group of words given.

The action of killing a king

Options :

1. ✘ Fratricide
2. ✘ Infanticide
3. ✔ Regicide
4. ✘ Matricide

Sub-Section Number:	2
Sub-Section Id:	5459271797
Question Shuffling Allowed :	Yes

Question Id : 54592730254 Question Type : COMPREHENSION Sub Question Shuffling Allowed : Yes Group Comprehension Questions : No

Question Numbers : (156 to 160)

Question Label : Comprehension

Answer the questions based on the following passage.

India is facing one of its major and most serious water crisis.

After two consecutive years of weak monsoons, 330 million people — a quarter of the country's population — are affected by a severe drought. With nearly 50 percent of India grappling with drought-like conditions, the situation has been particularly grim this year in western and southern states that received below average rainfall.

According to the Composite Water Management Index (CWMI) report released by the Niti Aayog in 2018, 21 major cities (Delhi, Bengaluru, Chennai, Hyderabad and others) are racing to reach zero groundwater levels by 2020, affecting access for 100 million people.

However, 12 percent of India's population is already living the 'Day Zero' scenario, thanks to excessive groundwater pumping, an inefficient and wasteful water management system and years of deficient rains. The CWMI report also states that by 2030, the country's water demand is projected to be twice the available supply, implying severe water scarcity for hundreds of millions of people and an eventual six percent loss in the country's GDP.

The Union government recently formed a new Jal Shakti (water) ministry, which aims at tackling water issues with a holistic and integrated perspective on the subject. The ministry has announced an ambitious plan to provide piped water connections to every household in India by 2024.

The ministry has set a tough target at a time when hundreds of millions don't have access to clean water. Aiming at laying huge pipeline networks for water supply means that yet again, we are giving more preference to infrastructure. Also, the moot questions are: what will happen if there is no water to supply? What will happen to all the wastewater that gets generated?

We are valuing land more than water, neglecting our local water bodies, which have either gone dry or encroached. Also, in many Indian cities, water is not properly distributed. Some areas of mega cities like Delhi and Mumbai are privileged to get more than the standard municipal water norm of 150 litres per capita per day while other areas get 40-50.

Looking at the current situation, there is a need for a paradigm shift. We urgently require a transition from this 'supply-and-supply-more water' provision to measures which lead towards improving water use efficiency, reducing leakages, recharging/restoring local water bodies as well as applying for higher tariffs and ownership by various stakeholders.

It is important to understand that managing the water situation is not the job of only engineers but all stakeholders including hydro geologists, economists, planners and most importantly, communities themselves. But locals/citizens/communities have a huge part to play. By keeping in check our own usage and actions, we can contribute.

As for our decision-makers, they need to re-think: Are we being sold dreams or realities?

Sub questions

Question Number : 156 Question Id : 54592730255 Question Type : MCQ Option Shuffling : Yes

Correct Marks : 1 Wrong Marks : 0.25

According to the author of the given passage, which of the following options is not responsible for the 'Day Zero' scenario in India?

Options :

1. ✓ Neglecting our local water bodies
2. ✗ Years of deficient rains
3. ✗ An inefficient and wasteful water management system
4. ✗ Excessive groundwater pumping

Question Number : 157 Question Id : 54592730256 Question Type : MCQ Option Shuffling : Yes

Correct Marks : 1 Wrong Marks : 0.25

The Union government's 'Jal Shakti' ministry was formed with an aim to:

Options :

1. ✗ Take steps towards improving water use efficiency.
2. ✓ Provide piped water connections to every household in India by 2024.
3. ✗ Provide access to clean water to every household in India.
4. ✗ Supply more than the standard municipal water norm of 150 litres per capita per day

Question Number : 158 Question Id : 54592730257 Question Type : MCQ Option Shuffling : Yes

Correct Marks : 1 Wrong Marks : 0.25

Which of the following options is not true as per the given passage?

Options :

1. ✗ 50 percent of India is grappling with drought-like conditions.

2. ✖ By 2030, the country's water demand is projected to be twice the available supply.
3. ✔ Local citizens and communities have little role to play when it comes to water management.
4. ✖ The standard municipal water norm is of 150 litres per capita per day.

Question Number : 159 Question Id : 54592730258 Question Type : MCQ Option Shuffling : Yes

Correct Marks : 1 Wrong Marks : 0.25

According to the given passage, choose an option that is closest in meaning to the word 'grappling' as used in the 1st paragraph, 2nd line:

Options :

1. ✖ Attacking
2. ✖ Yielding
3. ✖ Liberating
4. ✔ Struggling

Question Number : 160 Question Id : 54592730259 Question Type : MCQ Option Shuffling : Yes

Correct Marks : 1 Wrong Marks : 0.25

The given passage is most likely to be taken from:

Options :

1. ✔ A Newspaper
2. ✖ A Biography
3. ✖ A political journal
4. ✖ An economic magazine

Question Id : 54592730254 Question Type : COMPREHENSION Sub Question Shuffling Allowed : Yes Group Comprehension Questions : No

Question Numbers : (156 to 160)

Question Label : Comprehension

Answer the questions based on the following passage.

India is facing one of its major and most serious water crisis.

After two consecutive years of weak monsoons, 330 million people – a quarter of the country's population – are affected by a severe drought. With nearly 50 percent of India grappling with drought-like conditions, the situation has been particularly grim this year in western and southern states that received below average rainfall.

According to the Composite Water Management Index (CWMI) report released by the Niti Aayog in 2018, 21 major cities (Delhi, Bengaluru, Chennai, Hyderabad and others) are racing to reach zero groundwater levels by 2020, affecting access for 100 million people.

However, 12 percent of India's population is already living the 'Day Zero' scenario, thanks to excessive groundwater pumping, an inefficient and wasteful water management system and years of deficient rains. The CWMI report also states that by 2030, the country's water demand is projected to be twice the available supply, implying severe water scarcity for hundreds of millions of people and an eventual six percent loss in the country's GDP.

The Union government recently formed a new Jal Shakti (water) ministry, which aims at tackling water issues with a holistic and integrated perspective on the subject. The ministry has announced an ambitious plan to provide piped water connections to every household in India by 2024.

The ministry has set a tough target at a time when hundreds of millions don't have access to clean water. Aiming at laying huge pipeline networks for water supply means that yet again, we are giving more preference to infrastructure. Also, the moot questions are: what will happen if there is no water to supply? What will happen to all the wastewater that gets generated?

We are valuing land more than water, neglecting our local water bodies, which have either gone dry or encroached. Also, in many Indian cities, water is not properly distributed. Some areas of mega cities like Delhi and Mumbai are privileged to get more than the standard municipal water norm of 150 litres per capita per day while other areas get 40-50.

Looking at the current situation, there is a need for a paradigm shift. We urgently require a transition from this 'supply-and-supply-more water' provision to measures which lead towards improving water use efficiency, reducing leakages, recharging/restoring local water bodies as well as applying for higher tariffs and ownership by various stakeholders.

It is important to understand that managing the water situation is not the job of only engineers but all stakeholders including hydro geologists, economists, planners and most importantly, communities themselves. But locals/citizens/communities have a huge part to play. By keeping in check our own usage and actions, we can contribute.

As for our decision-makers, they need to re-think: Are we being sold dreams or realities?

Sub questions

Question Number : 156 Question Id : 54592730255 Question Type : MCQ Option Shuffling : Yes

Correct Marks : 1 Wrong Marks : 0.25

According to the author of the given passage, which of the following options is not responsible for the 'Day Zero' scenario in India?

Options :

1. ✓ Neglecting our local water bodies
2. ✗ Years of deficient rains
3. ✗ An inefficient and wasteful water management system
4. ✗ Excessive groundwater pumping

Question Number : 157 Question Id : 54592730256 Question Type : MCQ Option Shuffling : Yes

Correct Marks : 1 Wrong Marks : 0.25

The Union government's 'Jal Shakti' ministry was formed with an aim to:

Options :

1. ✗ Take steps towards improving water use efficiency.
2. ✓ Provide piped water connections to every household in India by 2024.
3. ✗ Provide access to clean water to every household in India.
4. ✗ Supply more than the standard municipal water norm of 150 litres per capita per day

Question Number : 158 Question Id : 54592730257 Question Type : MCQ Option Shuffling : Yes

Correct Marks : 1 Wrong Marks : 0.25

Which of the following options is not true as per the given passage?

Options :

1. ✖ 50 percent of India is grappling with drought-like conditions.
2. ✖ By 2030, the country's water demand is projected to be twice the available supply.
3. ✔ Local citizens and communities have little role to play when it comes to water management.
4. ✖ The standard municipal water norm is of 150 litres per capita per day.

Question Number : 159 Question Id : 54592730258 Question Type : MCQ Option Shuffling : Yes

Correct Marks : 1 Wrong Marks : 0.25

According to the given passage, choose an option that is closest in meaning to the word 'grappling' as used in the 1st paragraph, 2nd line:

Options :

1. ✖ Attacking
2. ✖ Yielding
3. ✖ Liberating
4. ✔ Struggling

Question Number : 160 Question Id : 54592730259 Question Type : MCQ Option Shuffling : Yes

Correct Marks : 1 Wrong Marks : 0.25

The given passage is most likely to be taken from:

Options :

1. ✓ A Newspaper
2. ✗ A Biography
3. ✗ A political journal
4. ✗ An economic magazine

General Hindi1

Group Number :	9
Group Id :	5459271499
Group Maximum Duration :	0
Group Minimum Duration :	0
Show Attended Group? :	No
Edit Attended Group? :	No
Break time:	0
Group Marks:	20
Is this Group for Examiner?:	No
Revisit allowed for group Instructions? :	Yes
Maximum Instruction Time:	0
Minimum Instruction Time:	0

General Hindi1

Section Id :	5459271499
Section Number :	1
Section type :	Online
Mandatory or Optional:	Mandatory
Number of Questions:	20
Number of Questions to be attempted:	20
Section Marks:	20

Sub-Section Number:	1
Sub-Section Id:	5459271798
Question Shuffling Allowed :	Yes

Question Number : 161 Question Id : 54592730260 Question Type : MCQ Option Shuffling : Yes
Correct Marks : 1 Wrong Marks : 0.25

निम्न में कर्मधारय समास का उदाहरण कौन-सा है?

Options :

1. ✗ मृत्युनिनाद
2. ✗ त्रिभुवन

3. ✓ घनश्याम

4. ✘ पीताम्बर

Question Number : 161 Question Id : 54592730260 Question Type : MCQ Option Shuffling : Yes
Correct Marks : 1 Wrong Marks : 0.25

निम्न में कर्मधारय समास का उदाहरण कौन-सा है?

Options :

1. ✘ मृत्युनिनाद

2. ✘ त्रिभुवन

3. ✓ घनश्याम

4. ✘ पीताम्बर

Question Number : 162 Question Id : 54592730261 Question Type : MCQ Option Shuffling : Yes
Correct Marks : 1 Wrong Marks : 0.25

निम्नलिखित में से व्यंजन संधि का उदाहरण कौन-सा है?

Options :

1. ✓ पंजाब

2. ✘ नीरस

3. ✘ अतएव

4. ✘ रवीन्द्र

Question Number : 162 Question Id : 54592730261 Question Type : MCQ Option Shuffling : Yes
Correct Marks : 1 Wrong Marks : 0.25

निम्नलिखित में से व्यंजन संधि का उदाहरण कौन-सा है?

Options :

1. ✓ पंजाब

2. ✘ नीरस

3. ✘ अतएव

4. ✘ रवीन्द्र

Question Number : 163 Question Id : 54592730262 Question Type : MCQ Option Shuffling : Yes
Correct Marks : 1 Wrong Marks : 0.25

आंचलिक' शब्द में जुड़ा 'इक' क्या है?

Options :

1. * उपसर्ग
2. ✓ प्रत्यय
3. * विभक्ति
4. * संधि

Question Number : 163 Question Id : 54592730262 Question Type : MCQ Option Shuffling : Yes

Correct Marks : 1 Wrong Marks : 0.25

आंचलिक' शब्द में जुड़ा 'इक' क्या है?

Options :

1. * उपसर्ग
2. ✓ प्रत्यय
3. * विभक्ति
4. * संधि

Question Number : 164 Question Id : 54592730263 Question Type : MCQ Option Shuffling : Yes

Correct Marks : 1 Wrong Marks : 0.25

शब्दों में उपसर्ग कहाँ लगता है?

Options :

1. * बीच में
2. * अंत में
3. ✓ प्रारंभ में
4. * कहीं नहीं

Question Number : 164 Question Id : 54592730263 Question Type : MCQ Option Shuffling : Yes

Correct Marks : 1 Wrong Marks : 0.25

शब्दों में उपसर्ग कहाँ लगता है?

Options :

1. * बीच में
2. * अंत में

3. ✓ प्रारंभ में

4. * कहीं नहीं

Question Number : 165 Question Id : 54592730264 Question Type : MCQ Option Shuffling : Yes

Correct Marks : 1 Wrong Marks : 0.25

जहाँ क्रिया का फल कर्म पर जाकर पूरा हो, वहाँ कौन-सी क्रिया होती है?

Options :

1. * विशेष क्रिया

2. ✓ सकर्मक क्रिया

3. * सामान्य क्रिया

4. * अकर्मक क्रिया

Question Number : 165 Question Id : 54592730264 Question Type : MCQ Option Shuffling : Yes

Correct Marks : 1 Wrong Marks : 0.25

जहाँ क्रिया का फल कर्म पर जाकर पूरा हो, वहाँ कौन-सी क्रिया होती है?

Options :

1. * विशेष क्रिया

2. ✓ सकर्मक क्रिया

3. * सामान्य क्रिया

4. * अकर्मक क्रिया

Question Number : 166 Question Id : 54592730265 Question Type : MCQ Option Shuffling : Yes

Correct Marks : 1 Wrong Marks : 0.25

निम्न में से अशुद्ध पर्यायवाची शब्द कौन-सा है?

Options :

1. * वागीश्वरी

2. * वाग्देवी

3. * शारदा

4. ✓ सुषमा

Question Number : 166 Question Id : 54592730265 Question Type : MCQ Option Shuffling : Yes

Correct Marks : 1 Wrong Marks : 0.25

निम्न में से अशुद्ध पर्यायवाची शब्द कौन-सा है?

Options :

1. ✖ वागीश्वरी
2. ✖ वाग्देवी
3. ✖ शारदा
4. ✔ सुषमा

Question Number : 167 Question Id : 54592730266 Question Type : MCQ Option Shuffling : Yes

Correct Marks : 1 Wrong Marks : 0.25

योगी का विलोम शब्द क्या है?

Options :

1. ✖ रोगी
2. ✖ निरोगी
3. ✔ भोगी
4. ✖ अभोगी

Question Number : 167 Question Id : 54592730266 Question Type : MCQ Option Shuffling : Yes

Correct Marks : 1 Wrong Marks : 0.25

योगी का विलोम शब्द क्या है?

Options :

1. ✖ रोगी
2. ✖ निरोगी
3. ✔ भोगी
4. ✖ अभोगी

Question Number : 168 Question Id : 54592730267 Question Type : MCQ Option Shuffling : Yes

Correct Marks : 1 Wrong Marks : 0.25

उपयुक्त विलोम से रिक्त स्थान की पूर्ति कीजिए:

परोपकारी सबका उपकार करते हैं _____ नहीं।

Options :

1. * अनुपकार
2. ✓ अपकार
3. * निरोपकार
4. * निरूपकार

Question Number : 168 Question Id : 54592730267 Question Type : MCQ Option Shuffling : Yes
Correct Marks : 1 Wrong Marks : 0.25

उपयुक्त विलोम से रिक्त स्थान की पूर्ति कीजिए:

परोपकारी सबका उपकार करते हैं _____ नहीं।

Options :

1. * अनुपकार
2. ✓ अपकार
3. * निरोपकार
4. * निरूपकार

Question Number : 169 Question Id : 54592730268 Question Type : MCQ Option Shuffling : Yes
Correct Marks : 1 Wrong Marks : 0.25

निम्न में से अशुद्ध पर्यायवाची शब्द कौन-सा है?

Options :

1. * अरि
2. * रिपु
3. * वैरी
4. ✓ असि

Question Number : 169 Question Id : 54592730268 Question Type : MCQ Option Shuffling : Yes
Correct Marks : 1 Wrong Marks : 0.25

निम्न में से अशुद्ध पर्यायवाची शब्द कौन-सा है?

Options :

1. * अरि

2. ✖ रिपु
3. ✖ वैरी
4. ✔ असि

Question Number : 170 Question Id : 54592730269 Question Type : MCQ Option Shuffling : Yes
Correct Marks : 1 Wrong Marks : 0.25

"दूसरे देश से मंगाया हुआ" वाक्यांश के लिए एक शब्द होगा:

Options :

1. ✖ दूरदर्शी
2. ✖ दूरवर्ती
3. ✔ आयातित
4. ✖ परावर्तित

Question Number : 170 Question Id : 54592730269 Question Type : MCQ Option Shuffling : Yes
Correct Marks : 1 Wrong Marks : 0.25

"दूसरे देश से मंगाया हुआ" वाक्यांश के लिए एक शब्द होगा:

Options :

1. ✖ दूरदर्शी
2. ✖ दूरवर्ती
3. ✔ आयातित
4. ✖ परावर्तित

Question Number : 171 Question Id : 54592730270 Question Type : MCQ Option Shuffling : Yes
Correct Marks : 1 Wrong Marks : 0.25

निम्नलिखित शब्द समूह के लिए एक शब्द लिखिए:

जो टुकड़े-टुकड़े हो गया हो-

Options :

1. ✖ झणभंगुर
2. ✔ खंडित
3. ✖ अनुखंडित

4. * कृतघ्न

Question Number : 171 Question Id : 54592730270 Question Type : MCQ Option Shuffling : Yes
Correct Marks : 1 Wrong Marks : 0.25

निम्नलिखित शब्द समूह के लिए एक शब्द लिखिए:

जो टुकड़े-टुकड़े हो गया हो-

Options :

1. * झणभंगुर
2. ✓ खंडित
3. * अनुखंडित
4. * कृतघ्न

Question Number : 172 Question Id : 54592730271 Question Type : MCQ Option Shuffling : Yes
Correct Marks : 1 Wrong Marks : 0.25

फीसदी का शाब्दिक अर्थ है:

Options :

1. ✓ प्रतिशत
2. * किलो
3. * वाट
4. * लीटर

Question Number : 172 Question Id : 54592730271 Question Type : MCQ Option Shuffling : Yes
Correct Marks : 1 Wrong Marks : 0.25

फीसदी का शाब्दिक अर्थ है:

Options :

1. ✓ प्रतिशत
2. * किलो
3. * वाट
4. * लीटर

Question Number : 173 Question Id : 54592730272 Question Type : MCQ Option Shuffling : Yes
Correct Marks : 1 Wrong Marks : 0.25

कौतुहल का शाब्दिक अर्थ है:

Options :

1. * अनुउत्साह
2. * प्रतिउत्साह
3. ✓ उत्सुकता
4. * उपसुकता

Question Number : 173 Question Id : 54592730272 Question Type : MCQ Option Shuffling : Yes
Correct Marks : 1 Wrong Marks : 0.25

कौतुहल का शाब्दिक अर्थ है:

Options :

1. * अनुउत्साह
2. * प्रतिउत्साह
3. ✓ उत्सुकता
4. * उपसुकता

Question Number : 174 Question Id : 54592730273 Question Type : MCQ Option Shuffling : Yes
Correct Marks : 1 Wrong Marks : 0.25

श्रुति भिन्नार्थक शब्द का सही अर्थ विकल्प में से लिखिए:

'सुत-सूत'

Options :

1. * बेटा-बेटी
2. * बेटा-माता
3. * बेटी-पिता
4. ✓ बेटा-सारथी

Question Number : 174 Question Id : 54592730273 Question Type : MCQ Option Shuffling : Yes
Correct Marks : 1 Wrong Marks : 0.25

श्रुति भिन्नार्थक शब्द का सही अर्थ विकल्प में से लिखिए:

'सुत-सूत'

Options :

1. * बेटा-बेटी
2. * बेटा-माता
3. * बेटी-पिता
4. ✓ बेटा-सारथी

Question Number : 175 Question Id : 54592730274 Question Type : MCQ Option Shuffling : Yes

Correct Marks : 1 Wrong Marks : 0.25

उपयुक्त शब्द को चुनकर रिक्त स्थान की पूर्ति कीजिए:

महात्मा गांधी जी का _____ शोकाकुल था।

Options :

1. * मृत्यु
2. ✓ निधन
3. * जन्म
4. * निर्वास

Question Number : 175 Question Id : 54592730274 Question Type : MCQ Option Shuffling : Yes

Correct Marks : 1 Wrong Marks : 0.25

उपयुक्त शब्द को चुनकर रिक्त स्थान की पूर्ति कीजिए:

महात्मा गांधी जी का _____ शोकाकुल था।

Options :

1. * मृत्यु
2. ✓ निधन
3. * जन्म

4. * निर्वास

Question Number : 176 Question Id : 54592730275 Question Type : MCQ Option Shuffling : Yes

Correct Marks : 1 Wrong Marks : 0.25

निम्नलिखित में से कौन-सा शुद्ध वाक्य है?

Options :

1. * तमाम देश भर में बात फैल गयी।
2. ✓ देश भर में बात फैल गयी।
3. * पूरे देश भर में बात फैल गयी।
4. * सम्पूर्ण देश भर में बात फैल गयी।

Question Number : 176 Question Id : 54592730275 Question Type : MCQ Option Shuffling : Yes

Correct Marks : 1 Wrong Marks : 0.25

निम्नलिखित में से कौन-सा शुद्ध वाक्य है?

Options :

1. * तमाम देश भर में बात फैल गयी।
2. ✓ देश भर में बात फैल गयी।
3. * पूरे देश भर में बात फैल गयी।
4. * सम्पूर्ण देश भर में बात फैल गयी।

Question Number : 177 Question Id : 54592730276 Question Type : MCQ Option Shuffling : Yes

Correct Marks : 1 Wrong Marks : 0.25

निम्नलिखित में से कौन-सा शुद्ध वाक्य है?

Options :

1. * साहित्य और जीवन में घोर संबंध है।
2. * साहित्य और जीवन से घोर संबंध है।
3. ✓ साहित्य और जीवन में घनिष्ठ संबंध है।
4. * घोर संबंध है साहित्य और जीवन में।

Question Number : 177 Question Id : 54592730276 Question Type : MCQ Option Shuffling : Yes

Correct Marks : 1 Wrong Marks : 0.25

निम्नलिखित में से कौन-सा शुद्ध वाक्य है?

Options :

1. * साहित्य और जीवन में घोर संबंध है।
2. * साहित्य और जीवन से घोर संबंध है।
3. ✓ साहित्य और जीवन में घनिष्ठ संबंध है।
4. * घोर संबंध है साहित्य और जीवन में।

Question Number : 178 Question Id : 54592730277 Question Type : MCQ Option Shuffling : Yes
Correct Marks : 1 Wrong Marks : 0.25

निम्नलिखित में से बाबू का स्त्रीलिंग क्या होगा?

Options :

1. ✓ बबुआइन
2. * बाबूनी
3. * बीबिइन
4. * बौआइन

Question Number : 178 Question Id : 54592730277 Question Type : MCQ Option Shuffling : Yes
Correct Marks : 1 Wrong Marks : 0.25

निम्नलिखित में से बाबू का स्त्रीलिंग क्या होगा?

Options :

1. ✓ बबुआइन
2. * बाबूनी
3. * बीबिइन
4. * बौआइन

Question Number : 179 Question Id : 54592730278 Question Type : MCQ Option Shuffling : Yes
Correct Marks : 1 Wrong Marks : 0.25

निम्नलिखित वाक्य में रेखांकित पद का वचन कौन-सा है?

भारत-भूमि पर अनेक नदियाँ बहती हैं-

Options :

1. * एकवचन
2. * द्विवचन

3. ✓ बहुवचन

4. ✘ सवचन

Question Number : 179 Question Id : 54592730278 Question Type : MCQ Option Shuffling : Yes
Correct Marks : 1 Wrong Marks : 0.25

निम्नलिखित वाक्य में रेखांकित पद का वचन कौन-सा है?

भारत-भूमि पर अनेक नदियाँ बहती हैं-

Options :

1. ✘ एकवचन

2. ✘ द्विवचन

3. ✓ बहुवचन

4. ✘ सवचन

Question Number : 180 Question Id : 54592730279 Question Type : MCQ Option Shuffling : Yes
Correct Marks : 1 Wrong Marks : 0.25

निम्नलिखित में से प्रजा का बहुवचन रूप क्या होगा?

Options :

1. ✘ प्रजापति

2. ✓ प्रजाजन

3. ✘ प्रजाइन

4. ✘ प्रजागण

Question Number : 180 Question Id : 54592730279 Question Type : MCQ Option Shuffling : Yes
Correct Marks : 1 Wrong Marks : 0.25

निम्नलिखित में से प्रजा का बहुवचन रूप क्या होगा?

Options :

1. ✘ प्रजापति

2. ✓ प्रजाजन

3. ✘ प्रजाइन

4. * प्रजागण

General Hindi2

Group Number :	10
Group Id :	5459271500
Group Maximum Duration :	0
Group Minimum Duration :	120
Show Attended Group? :	No
Edit Attended Group? :	No
Break time:	0
Group Marks:	20
Is this Group for Examiner?:	No
Revisit allowed for group Instructions? :	Yes
Maximum Instruction Time:	0
Minimum Instruction Time:	0

General Hindi2

Section Id :	5459271500
Section Number :	1
Section type :	Online
Mandatory or Optional:	Mandatory
Number of Questions:	16
Number of Questions to be attempted:	16
Section Marks:	20

Sub-Section Number:	1
Sub-Section Id:	5459271799
Question Shuffling Allowed :	Yes

Question Number : 181 Question Id : 54592730280 Question Type : MCQ Option Shuffling : Yes
Correct Marks : 1 Wrong Marks : 0.25

खाट का स्त्रीलिंग शब्द कौन-सा है?

Options :

1. * खाटी
2. * खिटिया
3. ✓ खटिया
4. * खूटिया

Question Number : 181 Question Id : 54592730280 Question Type : MCQ Option Shuffling : Yes
Correct Marks : 1 Wrong Marks : 0.25

खाट का स्त्रीलिंग शब्द कौन-सा है?

Options :

1. * खाटी
2. * खिटिया
3. ✓ खटिया
4. * खूंटिया

Question Number : 182 Question Id : 54592730281 Question Type : MCQ Option Shuffling : Yes
Correct Marks : 1 Wrong Marks : 0.25

क्रिया के जिस रूप से कार्य के बीते हुए समय में होने का बोध होता है, उसे कहते हैं:

Options :

1. * वर्तमान काल
2. * भविष्यकाल
3. ✓ भूतकाल
4. * निरंतर वर्तमान काल

Question Number : 182 Question Id : 54592730281 Question Type : MCQ Option Shuffling : Yes
Correct Marks : 1 Wrong Marks : 0.25

क्रिया के जिस रूप से कार्य के बीते हुए समय में होने का बोध होता है, उसे कहते हैं:

Options :

1. * वर्तमान काल
2. * भविष्यकाल
3. ✓ भूतकाल
4. * निरंतर वर्तमान काल

Question Number : 183 Question Id : 54592730282 Question Type : MCQ Option Shuffling : Yes
Correct Marks : 1 Wrong Marks : 0.25

"ज्यों ही आधी रात हुई त्यों ही मैंने काम करना बंद कर दिया" यह किस प्रकार का वाक्य है?

Options :

1. * सरल वाक्य
2. * संयुक्त वाक्य
3. * उपवाक्य
4. ✓ मिश्रित वाक्य

Question Number : 183 Question Id : 54592730282 Question Type : MCQ Option Shuffling : Yes
Correct Marks : 1 Wrong Marks : 0.25

"ज्यों ही आधी रात हुई त्यों ही मैंने काम करना बंद कर दिया" यह किस प्रकार का वाक्य है?

Options :

1. * सरल वाक्य
2. * संयुक्त वाक्य
3. * उपवाक्य
4. ✓ मिश्रित वाक्य

Question Number : 184 Question Id : 54592730283 Question Type : MCQ Option Shuffling : Yes
Correct Marks : 1 Wrong Marks : 0.25

"वह पढ़ता भी है और अखबार भी बेचता है।" यह किस प्रकार का वाक्य है?

Options :

1. ✓ संयुक्त वाक्य
2. * मिश्रित वाक्य
3. * उपवाक्य
4. * सरल वाक्य

Question Number : 184 Question Id : 54592730283 Question Type : MCQ Option Shuffling : Yes
Correct Marks : 1 Wrong Marks : 0.25

"वह पढ़ता भी है और अखबार भी बेचता है।" यह किस प्रकार का वाक्य है?

Options :

1. ✓ संयुक्त वाक्य

2. * मिश्रित वाक्य

3. * उपवाक्य

4. * सरल वाक्य

Question Number : 185 Question Id : 54592730284 Question Type : MCQ Option Shuffling : Yes
Correct Marks : 1 Wrong Marks : 0.25

'शेर' शब्द का स्त्रीलिंग होगा:

Options :

1. * शेरिन

2. * शेराइन

3. ✓ शेरनी

4. * शेरिनी

Question Number : 185 Question Id : 54592730284 Question Type : MCQ Option Shuffling : Yes
Correct Marks : 1 Wrong Marks : 0.25

'शेर' शब्द का स्त्रीलिंग होगा:

Options :

1. * शेरिन

2. * शेराइन

3. ✓ शेरनी

4. * शेरिनी

Question Number : 186 Question Id : 54592730285 Question Type : MCQ Option Shuffling : Yes
Correct Marks : 1 Wrong Marks : 0.25

निम्नलिखित में से कौन-सा शब्द सदा बहुवचन में रहता है?

Options :

1. * दल

2. * जल

3. * सत्य

4. ✓ प्राण

Question Number : 186 Question Id : 54592730285 Question Type : MCQ Option Shuffling : Yes

Correct Marks : 1 Wrong Marks : 0.25

निम्नलिखित में से कौन-सा शब्द सदा बहुवचन में रहता है?

Options :

1. ✖ दल
2. ✖ जल
3. ✖ सत्य
4. ✔ प्राण

Question Number : 187 Question Id : 54592730286 Question Type : MCQ Option Shuffling : Yes

Correct Marks : 1 Wrong Marks : 0.25

निम्नलिखित में से कौन-सा शब्द सदा एकवचन में रहता है?

Options :

1. ✔ आकाश
2. ✖ कन्या
3. ✖ कविता
4. ✖ कौआ

Question Number : 187 Question Id : 54592730286 Question Type : MCQ Option Shuffling : Yes

Correct Marks : 1 Wrong Marks : 0.25

निम्नलिखित में से कौन-सा शब्द सदा एकवचन में रहता है?

Options :

1. ✔ आकाश
2. ✖ कन्या
3. ✖ कविता
4. ✖ कौआ

Question Number : 188 Question Id : 54592730287 Question Type : MCQ Option Shuffling : Yes

Correct Marks : 1 Wrong Marks : 0.25

'नाख रखना' मुहावरे का अर्थ क्या है?

Options :

1. ✖ दीनता दिखाना

2. ✓ मान रखना

3. ✘ प्रतिष्ठा नष्ट करना

4. ✘ बहुत तंग करना

Question Number : 188 Question Id : 54592730287 Question Type : MCQ Option Shuffling : Yes
Correct Marks : 1 Wrong Marks : 0.25

'नाख रखना' मुहावरे का अर्थ क्या है?

Options :

1. ✘ दीनता दिखाना

2. ✓ मान रखना

3. ✘ प्रतिष्ठा नष्ट करना

4. ✘ बहुत तंग करना

Question Number : 189 Question Id : 54592730288 Question Type : MCQ Option Shuffling : Yes
Correct Marks : 1 Wrong Marks : 0.25

'हवा पलटना' मुहावरे का अर्थ क्या है?

Options :

1. ✘ बहुत तेज दौड़ना।

2. ✘ गायब हो जाना।

3. ✓ परिस्थिति बदल जाना।

4. ✘ बहुत कम दिखना।

Question Number : 189 Question Id : 54592730288 Question Type : MCQ Option Shuffling : Yes
Correct Marks : 1 Wrong Marks : 0.25

'हवा पलटना' मुहावरे का अर्थ क्या है?

Options :

1. ✘ बहुत तेज दौड़ना

2. ✘ गायब हो जाना

3. ✓ परिस्थिति बदल जाना

4. ✘ बहुत कम दिखना

Question Number : 190 Question Id : 54592730289 Question Type : MCQ Option Shuffling : Yes
Correct Marks : 1 Wrong Marks : 0.25

'सिर पर भूत सवार होना' मुहावरे का अर्थ क्या है?

Options :

1. ✓ सनक सवार होना।
2. * सिर में दर्द होना।
3. * भूत दिखना।
4. * भूत आ जाना।

Question Number : 190 Question Id : 54592730289 Question Type : MCQ Option Shuffling : Yes
Correct Marks : 1 Wrong Marks : 0.25

'सिर पर भूत सवार होना' मुहावरे का अर्थ क्या है?

Options :

1. ✓ सनक सवार होना
2. * सिर में दर्द होना
3. * भूत दिखना
4. * भूत आ जाना

Question Number : 191 Question Id : 54592730290 Question Type : MCQ Option Shuffling : Yes
Correct Marks : 1 Wrong Marks : 0.25

'साँच को आँच नहीं' लोकोक्ति का अर्थ क्या है?

Options :

1. * सच्चे मनुष्य को पुलिस का भय।
2. * सच्चे मनुष्य को आँच लगना।
3. * सच्चे मनुष्य को हमेशा भय लगना।
4. ✓ सच्चे मनुष्य को भय नहीं होता।

Question Number : 191 Question Id : 54592730290 Question Type : MCQ Option Shuffling : Yes
Correct Marks : 1 Wrong Marks : 0.25

'साँच को आँच नहीं' लोकोक्ति का अर्थ क्या है?

Options :

1. * सच्चे मनुष्य को पुलिस का भय।

2. * सच्चे मनुष्य को आँच लगना।
3. * सच्चे मनुष्य को हमेशा भय लगना।
4. ✓ सच्चे मनुष्य को भय नहीं होता।

Question Number : 192 Question Id : 54592730291 Question Type : MCQ Option Shuffling : Yes
Correct Marks : 1 Wrong Marks : 0.25

निम्नलिखित अधूरे वाक्य को सही मुहावरे से भरिए:

कुछ काम करो। यों कागजी _____

Options :

1. * पुल न बनाओ।
2. ✓ घोड़े न दौड़ाओ।
3. * नाव न बनाओ।
4. * शेर न बनाओ।

Question Number : 192 Question Id : 54592730291 Question Type : MCQ Option Shuffling : Yes
Correct Marks : 1 Wrong Marks : 0.25

निम्नलिखित अधूरे वाक्य को सही मुहावरे से भरिए:

कुछ काम करो। यों कागजी _____

Options :

1. * पुल न बनाओ।
2. ✓ घोड़े न दौड़ाओ।
3. * नाव न बनाओ।
4. * शेर न बनाओ।

Question Number : 193 Question Id : 54592730292 Question Type : MCQ Option Shuffling : Yes
Correct Marks : 1 Wrong Marks : 0.25

निम्नलिखित अधूरे वाक्य को अधोलिखित सही मुहावरे से भरिए:

मैं उस पर कभी विश्वास नहीं करता। वह तो _____

Options :

1. * उड़ती चिड़िया है।
2. * हाथों का तोता है।
3. ✓ बेपैदी का लोटा है।
4. * गंगू तेली है।

Question Number : 193 Question Id : 54592730292 Question Type : MCQ Option Shuffling : Yes

Correct Marks : 1 Wrong Marks : 0.25

निम्नलिखित अधूरे वाक्य को अधोलिखित सही मुहावरे से भरिए:

मैं उस पर कभी विश्वास नहीं करता। वह तो _____।

Options :

1. * उड़ती चिड़िया है।
2. * हाथों का तोता है।
3. ✓ बेपैदी का लोटा है।
4. * गंगू तेली है।

Question Number : 194 Question Id : 54592730293 Question Type : MCQ Option Shuffling : Yes

Correct Marks : 1 Wrong Marks : 0.25

निम्नलिखित मुहावरे का सटीक अर्थ कौन-सा है?

घर में गंगा बहना

Options :

1. * बाढ़ आना।
2. ✓ घर में ही सुविधा मिलना।
3. * पानी का रिसाव होना।
4. * घर में तीर्थ होना।

Question Number : 194 Question Id : 54592730293 Question Type : MCQ Option Shuffling : Yes
Correct Marks : 1 Wrong Marks : 0.25

निम्नलिखित मुहावरे का सटीक अर्थ कौन-सा है?

घर में गंगा बहना

Options :

1. * बाढ़ आना।
2. ✓ घर में ही सुविधा मिलना।
3. * पानी का रिसाव होना।
4. * घर में तीर्थ होना।

Question Number : 195 Question Id : 54592730294 Question Type : MCQ Option Shuffling : Yes
Correct Marks : 1 Wrong Marks : 0.25

"दूर के ढोल सुहावने होते हैं", लोकोक्ति का अर्थ है:

Options :

1. * दूर से ढोल की मधुर आवाज आती है।
2. * दूर से ढोल की आवाज कम सुनायी देती है।
3. ✓ दूर की चीजें अच्छी लगती हैं।
4. * दूर से चीजें दिखाई नहीं देती हैं।

Question Number : 195 Question Id : 54592730294 Question Type : MCQ Option Shuffling : Yes
Correct Marks : 1 Wrong Marks : 0.25

"दूर के ढोल सुहावने होते हैं", लोकोक्ति का अर्थ है:

Options :

1. * दूर से ढोल की मधुर आवाज आती है।
2. * दूर से ढोल की आवाज कम सुनायी देती है।
3. ✓ दूर की चीजें अच्छी लगती हैं।
4. * दूर से चीजें दिखाई नहीं देती हैं।

Sub-Section Number:	2
Sub-Section Id:	5459271800
Question Shuffling Allowed :	Yes

Question Id : 54592730295 Question Type : COMPREHENSION Sub Question Shuffling Allowed : Yes Group Comprehension Questions : No

Question Numbers : (196 to 200)

Question Label : Comprehension

"निम्नलिखित गद्यांश को पढ़कर दिए गए प्रश्न का उत्तर दें।

यदि साहित्य समाज का दर्पण होता तो संसार को बदलने की बात न उठती। कवि का काम यथार्थ जीवन को प्रतिबिम्बित करना ही होता तो वह प्रजापति का दर्जा न पाता। वास्तव में प्रजापति ने जो समाज बनाया है, उससे असंतुष्ट होकर नया समाज बनाना कवि का जन्मसिद्ध अधिकार है।

कवि की यह सृष्टि निराधार नहीं होती। हम उसमें अपनी ज्यों-की-त्यों आकृति भले ही न देखें, पर ऐसी आकृति जरूर देखते हैं जैसी हमें प्रिय है, जैसी आकृति हम बनाना चाहते हैं। कवि अपनी रुचि के अनुसार जब विश्व को परिवर्तित करता है तो यह भी बताता है कि विश्व से उसे असंतोष क्यों है। वह यह भी बताता है कि विश्व में उसे क्या रुचता है। जिससे वह फलता फूलता देखना चाहता है उसके चित्र के चमकीले रंग और पार्श्व-भूमि की गहरी काली रेखाएं-दोनों ही यथार्थ जीवन से उत्पन्न होते हैं। इसलिए प्रजापति कवि गंभीर यथार्थवादी होता है, ऐसा यथार्थवादी जिसके पाँव वर्तमान की धरती पर हैं और आँखें भविष्य की क्षितिज पर लगी हुई हैं।

इसलिए मनुष्य साहित्य में अपने सुख-दुख की बात ही नहीं सुनता, वह उसमें आशा का स्वर भी सुनता है।

पंद्रहवीं-सोलहवीं सदी में हिंदी साहित्य ने यही भूमिका पूरी की थी। सामंती पिंजड़े ने बंद मानव-जीवन की मुक्ति के लिए उसने वर्ण और धर्म के सीकंजों पर प्रहार किए थे। कश्मीरी ललदेह, पंजाबी नानक, हिंदी सूर-तुलसी-मीरा-कबीर बंगाली चंडीदास, तमिल तिरुवल्लुवर आदि, गायकों ने आगे पीछे समूचे भारत में उस जीर्ण मानव संबंधों के पिंजड़े को झकझोर दिया था। इन गायकों की वाणी ने पीड़ित जनता के मर्म को स्पर्श कर उसे नए जीवन के लिए बटोरा, उसे आशा दी, और जहाँ-तहाँ जीवन को बदलने के लिए आमंत्रित भी किया।

Sub questions

Question Number : 196 Question Id : 54592730296 Question Type : MCQ Option Shuffling : Yes

Correct Marks : 1 Wrong Marks : 0.25

उपरोक्त गद्यांश के अनुसार आशय स्पष्ट कीजिए:

“साहित्य समाज का दर्पण है”-

Options :

1. * साहित्य समाज को चमकाता है।
2. ✓ साहित्य में समाज को देखा जा सकता है।
3. * साहित्य समाज की नकल है।
4. * साहित्य समाज के अनुसार चलता है।

Question Number : 197 Question Id : 54592730297 Question Type : MCQ Option Shuffling : Yes
Correct Marks : 1 Wrong Marks : 0.25

उपरोक्त गद्यांश के अनुसार:

साहित्य युद्धभूमि में क्या भूमिका निभाता है।

Options :

1. * शांति स्थापित करने की।
2. ✓ संघर्ष करने की।
3. * समझाने-बुझाने की।
4. * युद्ध भड़काने की।

Question Number : 198 Question Id : 54592730298 Question Type : MCQ Option Shuffling : Yes
Correct Marks : 1 Wrong Marks : 0.25

उपरोक्त गद्यांश के अनुसार:

कवि को प्रजापति क्यों कहा गया है।

Options :

1. ✓ समाज का नव-निर्माण करने के कारण।
2. * प्रजा-हित के कारण।
3. * प्रजा की रक्षा के कारण।
4. * प्रजा का रंजन करने के कारण।

Question Number : 199 Question Id : 54592730299 Question Type : MCQ Option Shuffling : Yes
Correct Marks : 1 Wrong Marks : 0.25

उपरोक्त गद्यांश के अनुसार:

उत्साहित का विलोम शब्द लिखिए।

Options :

1. * अनुत्साहित
2. * अतिउत्साहित
3. ✓ हतोत्साहित
4. * क्रमानुत्साहित

Question Number : 200 Question Id : 54592730300 Question Type : MCQ Option Shuffling : Yes
Correct Marks : 1 Wrong Marks : 0.25

उपरोक्त गद्यांश के अनुसार:

गद्यांश का उचित शीर्षक दीजिए।

Options :

1. * कवि: समाज-निर्माता
2. * कवि
3. ✓ कवि: समाज का प्रेरक
4. * कवि: सृष्टि का निर्माता

Question Id : 54592730295 Question Type : COMPREHENSION Sub Question Shuffling Allowed : Yes Group Comprehension
Questions : No
Question Numbers : (196 to 200)

Question Label : Comprehension

"निम्नलिखित गद्यांश को पढ़कर दिए गए प्रश्न का उत्तर दें।

यदि साहित्य समाज का दर्पण होता तो संसार को बदलने की बात न उठती। कवि का काम यथार्थ जीवन को प्रतिबिम्बित करना ही होता तो वह प्रजापति का दर्जा न पाता। वास्तव में प्रजापति ने जो समाज बनाया है, उससे असंतुष्ट होकर नया समाज बनाना कवि का जन्मसिद्ध अधिकार है।

कवि की यह सृष्टि निराधार नहीं होती। हम उसमें अपनी ज्यों-की-त्यों आकृति भले ही न देखें, पर ऐसी आकृति जरूर देखते हैं जैसी हमें प्रिय है, जैसी आकृति हम बनाना चाहते हैं। कवि अपनी रुचि के अनुसार जब विश्व को परिवर्तित करता है तो यह भी बताता है कि विश्व से उसे असंतोष क्यों है। वह यह भी बताता है कि विश्व में उसे क्या रुचता है। जिससे वह फलता फूलता देखना चाहता है उसके चित्र के चमकीले रंग और पार्श्व-भूमि की गहरी काली रेखाएं-दोनों ही यथार्थ जीवन से उत्पन्न होते हैं। इसलिए प्रजापति कवि गंभीर यथार्थवादी होता है, ऐसा यथार्थवादी जिसके पाँव वर्तमान की धरती पर हैं और आँखें भविष्य की क्षितिज पर लगी हुई हैं।

इसलिए मनुष्य साहित्य में अपने सुख-दुख की बात ही नहीं सुनता, वह उसमें आशा का स्वर भी सुनता है।

पंद्रहवीं-सोलहवीं सदी में हिंदी साहित्य ने यही भूमिका पूरी की थी। सामंती पिंजड़े ने बंद मानव-जीवन की मुक्ति के लिए उसने वर्ण और धर्म के सीकंजों पर प्रहार किए थे। कश्मीरी ललदेह, पंजाबी नानक, हिंदी सूर-तुलसी-मीरा-कबीर बंगाली चंडीदास, तमिल तिरूवल्लुवर आदि, गायकों ने आगे पीछे समूचे भारत में उस जीर्ण मानव संबंधों के पिंजड़े को झकझोर दिया था। इन गायकों की वाणी ने पीड़ित जनता के मर्म को स्पर्श कर उसे नए जीवन के लिए बटोरा, उसे आशा दी, और जहाँ-तहाँ जीवन को बदलने के लिए आमंत्रित भी किया।

Sub questions

Question Number : 196 Question Id : 54592730296 Question Type : MCQ Option Shuffling : Yes
Correct Marks : 1 Wrong Marks : 0.25

उपरोक्त गद्यांश के अनुसार आशय स्पष्ट कीजिए:

“साहित्य समाज का दर्पण है”-

Options :

1. * साहित्य समाज को चमकाता है।
2. ✓ साहित्य में समाज को देखा जा सकता है।
3. * साहित्य समाज की नकल है।
4. * साहित्य समाज के अनुसार चलता है।

Question Number : 197 Question Id : 54592730297 Question Type : MCQ Option Shuffling : Yes
Correct Marks : 1 Wrong Marks : 0.25

उपरोक्त गद्यांश के अनुसार:

साहित्य युद्धभूमि में क्या भूमिका निभाता है।

Options :

1. * शांति स्थापित करने की।
2. ✓ संघर्ष करने की।
3. * समझाने-बुझाने की।
4. * युद्ध भड़काने की।

Question Number : 198 Question Id : 54592730298 Question Type : MCQ Option Shuffling : Yes
Correct Marks : 1 Wrong Marks : 0.25

उपरोक्त गद्यांश के अनुसार:

कवि को प्रजापति क्यों कहा गया है।

Options :

1. ✓ समाज का नव-निर्माण करने के कारण।
2. ✘ प्रजा-हित के कारण।
3. ✘ प्रजा की रक्षा के कारण।
4. ✘ प्रजा का रंजन करने के कारण।

Question Number : 199 Question Id : 54592730299 Question Type : MCQ Option Shuffling : Yes
Correct Marks : 1 Wrong Marks : 0.25

उपरोक्त गद्यांश के अनुसार:

उत्साहित का विलोम शब्द लिखिए।

Options :

1. ✘ अनुत्साहित
2. ✘ अतिउत्साहित
3. ✓ हतोत्साहित
4. ✘ क्रमानुत्साहित

Question Number : 200 Question Id : 54592730300 Question Type : MCQ Option Shuffling : Yes
Correct Marks : 1 Wrong Marks : 0.25

उपरोक्त गद्यांश के अनुसार:

गद्यांश का उचित शीर्षक दीजिए।

Options :

1. ✘ कवि: समाज-निर्माता
2. ✘ कवि
3. ✓ कवि: समाज का प्रेरक
4. ✘ कवि: सृष्टि का निर्माता