

## Education Consultant India Ltd.

Notations :

1.Options shown in **green** color and with ✓ icon are correct.

2.Options shown in **red** color and with ✖ icon are incorrect.

|   |  |
|---|--|
| <b>Question Paper Name:</b>                   | Grade IV DASS Junior Assistant 06th September 2019 Shift 1 |
| <b>Subject Name:</b>                          | GRADE IV DASS JUNIOR ASSISTANT                             |
| <b>Creation Date:</b>                         | 2019-09-06 11:48:19  |
| <b>Duration:</b>                              | 120  |
| <b>Total Marks:</b>                           | 200  |
| <b>Display Marks:</b>                         | Yes  |
| <b>Share Answer Key With Delivery Engine:</b> | No   |
| <b>Actual Answer Key:</b>                     | Yes  |
| <b>Calculator:</b>                            | None   |
| <b>Magnifying Glass Required?:</b>            | No   |
| <b>Ruler Required?:</b>                       | No   |
| <b>Eraser Required?:</b>                      | No   |
| <b>Scratch Pad Required?:</b>                 | No   |
| <b>Rough Sketch/Notepad Required?:</b>        | No   |
| <b>Protractor Required?:</b>                  | No   |
| <b>Show Watermark on Console?:</b>            | Yes  |
| <b>Highlighter:</b>                           | No   |
| <b>Auto Save on Console?:</b>                 | No   |

## Mental Ability1

|  |            |
|--|------------|
| <b>Group Number :</b>                            | 1          |
| <b>Group Id :</b>                                | 5459271511 |
| <b>Group Maximum Duration :</b>                  | 0          |
| <b>Group Minimum Duration :</b>                  | 0          |
| <b>Show Attended Group? :</b>                    | No         |
| <b>Edit Attended Group? :</b>                    | No         |
| <b>Break time:</b>                               | 0          |
| <b>Group Marks:</b>                              | 20         |
| <b>Is this Group for Examiner?:</b>              | No         |
| <b>Revisit allowed for group Instructions? :</b> | Yes        |
| <b>Maximum Instruction Time:</b>                 | 0          |
| <b>Minimum Instruction Time:</b>                 | 0          |

## Mental Ability1

|                         |            |
|-------------------------|------------|
| <b>Section Id :</b>     | 5459271511 |
| <b>Section Number :</b> | 1          |

|                                      |           |
|--------------------------------------|-----------|
| Section type :                       | Online    |
| Mandatory or Optional:               | Mandatory |
| Number of Questions:                 | 20        |
| Number of Questions to be attempted: | 20        |
| Section Marks:                       | 20        |

|                              |            |
|------------------------------|------------|
| Sub-Section Number:          | 1          |
| Sub-Section Id:              | 5459271813 |
| Question Shuffling Allowed : | Yes        |

Question Number : 1 Question Id : 54592730503 Question Type : MCQ Option Shuffling : Yes  
Correct Marks : 1 Wrong Marks : 0.25

From the given responses, find the missing letter in the series.

ECDF,IGHJ, MKLN, \_\_\_\_\_

Options :

1. ✘ RTMK
2. ✔ QOPR
3. ✘ YNVU
4. ✘ HTQL

Question Number : 1 Question Id : 54592730503 Question Type : MCQ Option Shuffling : Yes  
Correct Marks : 1 Wrong Marks : 0.25

दिए गए विकल्पों में से श्रेणी में लुप्त अक्षर को ज्ञात करें:

ECDF,IGHJ, MKLN, \_\_\_\_\_

Options :

1. ✘ RTMK
2. ✔ QOPR
3. ✘ YNVU
4. ✘ HTQL

Question Number : 2 Question Id : 54592730504 Question Type : MCQ Option Shuffling : Yes  
Correct Marks : 1 Wrong Marks : 0.25

Find the wrong term in the series?

KL1,OQ2,OV9,JM3

Options :

1. \* KL1
2. \* OQ2
3. ✓ OV9
4. \* JM3

Question Number : 2 Question Id : 54592730504 Question Type : MCQ Option Shuffling : Yes

Correct Marks : 1 Wrong Marks : 0.25

श्रृंखला में गलत पद खोजें?

KL1,OQ2,OV9,JM3

Options :

1. \* KL1
2. \* OQ2
3. ✓ OV9
4. \* JM3

Question Number : 3 Question Id : 54592730505 Question Type : MCQ Option Shuffling : Yes

Correct Marks : 1 Wrong Marks : 0.25

If all the letters in the word 'AUSTRALIA' are arranged in the English alphabet order in itself and thus formed words arranged in dictionary order from left to right, then which of the following original word is the 4TH from right?

Options :

1. \* S
2. \* L

3. ✖ A

4. ✔ R

Question Number : 3 Question Id : 54592730505 Question Type : MCQ Option Shuffling : Yes

Correct Marks : 1 Wrong Marks : 0.25

यदि शब्द AUSTRALIA 'के सभी अक्षर अंग्रेजी वर्णमाला क्रम में अपने आप व्यवस्थित होते हैं और इस प्रकार शब्द के क्रम में व्यवस्थित शब्द बाएं से दाएं होते हैं, तो निम्नलिखित में से कौन सा मूल शब्द दाईं ओर 4TH है?

Options :

1. ✖ S

2. ✖ L

3. ✖ A

4. ✔ R

Question Number : 4 Question Id : 54592730506 Question Type : MCQ Option Shuffling : Yes

Correct Marks : 1 Wrong Marks : 0.25

Find the odd one out from the given alternatives.

Options :

1. ✖ Drone

2. ✖ Buck

3. ✔ Cow

4. ✖ Bull

Question Number : 4 Question Id : 54592730506 Question Type : MCQ Option Shuffling : Yes

Correct Marks : 1 Wrong Marks : 0.25

दिए गए विकल्पों में से विषम ज्ञात करें।

Options :

1. ✖ नर मधुमक्खी (Drone)

2. ✖ हिरन

3. ✓ गाय

4. ✖ बैल

Question Number : 5 Question Id : 54592730507 Question Type : MCQ Option Shuffling : Yes

Correct Marks : 1 Wrong Marks : 0.25

Choose the odd one from the given alternatives.

Options :

1. ✖ OKQ

2. ✓ JNH

3. ✖ RNT

4. ✖ EAG

Question Number : 5 Question Id : 54592730507 Question Type : MCQ Option Shuffling : Yes

Correct Marks : 1 Wrong Marks : 0.25

दिए गए विकल्पों से भिन्न को चुनें।

Options :

1. ✖ OKQ

2. ✓ JNH

3. ✖ RNT

4. ✖ EAG

Question Number : 6 Question Id : 54592730508 Question Type : MCQ Option Shuffling : Yes

Correct Marks : 1 Wrong Marks : 0.25

In each of the following questions, certain pairs of words are given, out of which the words in all pairs except one, bear a certain common relationship. Choose the pair in which the words are differently related.

Options :

1. ✖ Dog : Puppy

2. ✓ Deer : Kitten

3. ✖ Lion : Cub

## 4. \* Tiger : Cub

Question Number : 6 Question Id : 54592730508 Question Type : MCQ Option Shuffling : Yes  
Correct Marks : 1 Wrong Marks : 0.25

निम्नलिखित प्रत्येक प्रश्न में, कुछ निश्चित शब्द दिए गए हैं, जिनमें से एक को छोड़कर सभी जोड़े में शब्द एक निश्चित सामान्य संबंध हैं। उस जोड़ी को चुनें जिसमें शब्द अलग तरह से संबंधित हैं।

Options :

1. \* कुत्ता : पिल्ला
2. ✓ हिरण : बछड़ा
3. \* शेर : शावक
4. \* बाघ : शावक

Question Number : 7 Question Id : 54592730509 Question Type : MCQ Option Shuffling : Yes  
Correct Marks : 1 Wrong Marks : 0.25

In the following question, select the related letter/word/number from the given alternatives.

Silence : shout :: \_\_\_\_\_ : \_\_\_\_\_

Options :

1. \* Joke : Laugh
2. \* Elevate : agree
3. \* Level : grade
4. ✓ Elastic : rigid

Question Number : 7 Question Id : 54592730509 Question Type : MCQ Option Shuffling : Yes  
Correct Marks : 1 Wrong Marks : 0.25

निम्नलिखित प्रश्न में दिए गए विकल्पों में से सम्बन्धित अक्षर/शब्द/संख्या को चुनिए।

मौन : चिल्लाना :: \_\_\_\_\_ : \_\_\_\_\_

Options :

1. \* मजाक : हंसी
2. \* एलिवेट : सहमत हैं
3. \* स्तर : ग्रेड
4. ✓ इलास्टिक : कठोर

Question Number : 8 Question Id : 54592730510 Question Type : MCQ Option Shuffling : Yes  
Correct Marks : 1 Wrong Marks : 0.25

In the following question, select the related letter/word/number from the given alternatives.

EDMN : DENM :: IRNT : \_\_\_\_\_

Options :

1. ✓ HSOS
2. \* HSQR
3. \* HPRS
4. \* HIPX

Question Number : 8 Question Id : 54592730510 Question Type : MCQ Option Shuffling : Yes  
Correct Marks : 1 Wrong Marks : 0.25

निम्नलिखित प्रश्न में दिए गए विकल्पों में से सम्बन्धित अक्षर/शब्द/संख्या को चुनिए।

EDMN : DENM :: IRNT : \_\_\_\_\_

Options :

1. ✓ HSOS

2. ✗ HSQR

3. ✗ HPRS

4. ✗ HIPX

Question Number : 9 Question Id : 54592730511 Question Type : MCQ Option Shuffling : Yes

Correct Marks : 1 Wrong Marks : 0.25

In the following question, select the related letter/word/number from the given alternatives.

IJ : KL :: \_\_\_\_\_ : \_\_\_\_\_

Options :

1. ✗ AB : PQ

2. ✗ AD : GH

3. ✗ EM : OP

4. ✓ MN : OP

Question Number : 9 Question Id : 54592730511 Question Type : MCQ Option Shuffling : Yes

Correct Marks : 1 Wrong Marks : 0.25

निम्नलिखित प्रश्न में दिए गए विकल्पों में से सम्बन्धित अक्षर/शब्द/संख्या को चुनिए।

IJ : KL :: \_\_\_\_\_ : \_\_\_\_\_

Options :

1. ✗ AB : PQ

2. ✗ AD : GH

3. ✗ EM : OP

4. ✓ MN : OP



Question Number : 10 Question Id : 54592730512 Question Type : MCQ Option Shuffling : Yes

Correct Marks : 1 Wrong Marks : 0.25

If 'MARE' is coded as 14-26-9-22, how will '20-22-26-9' be decoded?

Options :

1. ✖ BEAR
2. ✖ FEAR
3. ✔ GEAR
4. ✖ MAKE

Question Number : 10 Question Id : 54592730512 Question Type : MCQ Option Shuffling : Yes

Correct Marks : 1 Wrong Marks : 0.25

यदि 'MARE' को 14-26-9-22 के रूप में कुटित किया जाता है, तो '20-22-26-9' को कैसे कूट किया जाएगा?

Options :

1. ✖ BEAR
2. ✖ FEAR
3. ✔ GEAR
4. ✖ MAKE

Question Number : 11 Question Id : 54592730513 Question Type : MCQ Option Shuffling : Yes

Correct Marks : 1 Wrong Marks : 0.25

If 'glass' is called 'marker', 'marker' is called 'pencil', 'pencil' is called 'grass' and 'grass' is called 'bag', then what does animals eat?

Options :

1. ✖ Grass
2. ✔ Bag
3. ✖ Marker
4. ✖ Glass

Question Number : 11 Question Id : 54592730513 Question Type : MCQ Option Shuffling : Yes

Correct Marks : 1 Wrong Marks : 0.25

यदि 'गिलास' को 'मार्कर' कहा जाता है, 'मार्कर' को 'पेंसिल' कहा जाता है, 'पेंसिल' को 'घास' कहा जाता है और 'घास' को 'बैग' कहा जाता है, तो जानवर क्या खाते हैं?

Options :

1. ✖ घास
2. ✔ बैग
3. ✖ मार्कर
4. ✖ गिलास

Question Number : 12 Question Id : 54592730514 Question Type : MCQ Option Shuffling : Yes

Correct Marks : 1 Wrong Marks : 0.25

In a certain code language, 'la ma sa' means 'May I Come', 'sa ma fa' means 'you may come'. What does 'la' means in that code language?

Options :

1. ✔ I
2. ✖ You
3. ✖ May or come
4. ✖ Data inadequate

Question Number : 12 Question Id : 54592730514 Question Type : MCQ Option Shuffling : Yes

Correct Marks : 1 Wrong Marks : 0.25

एक निश्चित कूट भाषा में, 'la ma sa' का अर्थ 'May I Come', 'sa ma fa' का अर्थ 'you may come' कूट भाषा में 'la' का अर्थ क्या है?

Options :

1. ✔ I
2. ✖ You

3. \* May or come

4. \* Data inadequate

Question Number : 13 Question Id : 54592730515 Question Type : MCQ Option Shuffling : Yes

Correct Marks : 1 Wrong Marks : 0.25

Six animals Elephant, Tiger, Bear, Lion, Dog, Cat are sitting on a bench facing north and discussing about a game. Tiger is sitting second to the right of Dog who is immediate left of Bear. Neither Elephant nor Lion is on the either end. Cat is on the right end of the bench. Lion is third to the right of animal who is immediate right of Dog.

Which of the following animal is third to the left of animal who is at right end?

Options :

1. \* Elephant

2. ✓ Tiger

3. \* Dog

4. \* Cat

Question Number : 13 Question Id : 54592730515 Question Type : MCQ Option Shuffling : Yes

Correct Marks : 1 Wrong Marks : 0.25

छः जानवर हाथी , चीता, भालू , शेर , कुत्ता , बिल्ली एक बेंच पर उत्तर दिशा की ओर मुख करके बैठे हैं और एक खेल की चर्चा कर रहे हैं। चीता, कुत्ते के दाएं से दूसरे स्थान पर बैठा है जो कि भालू के निकटवर्ती दायीं ओर बैठा है। न तो हाथी न ही शेर किसी भी छोर पर बैठे हैं। बिल्ली , बेंच के दाएं छोर पर बैठी है। शेर उस जानवर के दाएं से तीसरे स्थान पर है जो कि कुत्ते के निकटवर्ती दायीं ओर बैठा है

निम्न में से कौन सा जानवर दाएं अंत पर बैठा है उस जानवर के बाएं से तीसरे स्थान पर बैठा है ?

Options :

1. \* हाथी
2. ✓ चीता
3. \* कुत्ता
4. \* बिल्ली

Question Number : 14 Question Id : 54592730516 Question Type : MCQ Option Shuffling : Yes  
Correct Marks : 1 Wrong Marks : 0.25

Six poles viz. K,L,M,N,O and P each of different length are kept on the ground but not necessarily in the same order. L is shorter than K but longer than P. N is longer than K. M is shorter than K but longer than L. P is not the shortest. Which is the shortest pole?

Options :

1. \* K
2. ✓ O
3. \* M
4. \* L

Question Number : 14 Question Id : 54592730516 Question Type : MCQ Option Shuffling : Yes  
Correct Marks : 1 Wrong Marks : 0.25

छह खम्बे अर्थात K,L,M,N,O और P प्रत्येक अलग-अलग लंबाई जमीन पर रखे जाते हैं लेकिन जरूरी नहीं कि एक ही क्रम में हो। L, K से छोटा है लेकिन P से लंबा है। N , K से लम्बा है K, M छोटा है K से लेकिन L से लम्बा है। P सबसे छोटा नहीं है। सबसे छोटा खम्बा कौन सा है?

Options :

1. ✖ K
2. ✔ O
3. ✖ M
4. ✖ L

Question Number : 15 Question Id : 54592730517 Question Type : MCQ Option Shuffling : Yes  
Correct Marks : 1 Wrong Marks : 0.25

Ram, Gauri, Rahul, Shiv and Tom are five dancers who have to perform on a particular day, not necessarily in the same order. Rahul is neither the first nor the last to perform. There are exactly three dancers who performed after Shiv and exactly three dancers who performed ahead of Tom. If Ram performs after Gauri, then who is the last to perform?

Options :

1. ✖ Shiv
2. ✖ Tom
3. ✔ Ram
4. ✖ Gauri

Question Number : 15 Question Id : 54592730517 Question Type : MCQ Option Shuffling : Yes  
Correct Marks : 1 Wrong Marks : 0.25

राम, गौरी, राहुल, शिव और टॉम पांच नर्तक हैं जिन्हें किसी विशेष दिन पर प्रदर्शन करना होता है, जरूरी नहीं कि वे उसी क्रम में हों। राहुल प्रदर्शन के लिए न तो पहले और न ही आखिरी हैं। ठीक तीन नर्तक हैं जिन्होंने शिव के बाद प्रदर्शन किया और ठीक तीन नर्तक जिन्होंने टॉम के आगे प्रस्तुति दी। यदि राम गौरी के बाद प्रदर्शन करते हैं, तो अंतिम प्रदर्शन करने वाला कौन है?

Options :

1. ✖ शिव
2. ✖ टॉम
3. ✔ राम
4. ✖ गौरी

Question Number : 16 Question Id : 54592730518 Question Type : MCQ Option Shuffling : Yes

Correct Marks : 1 Wrong Marks : 0.25

In a row of boys, Vigyan is 12th from the start and 19th from the end. In another row of boys, Jatin is 14th from the start and 20th from the end. How many boys are there in both the rows together?

Options :

1. ✖ 72
2. ✖ 65
3. ✔ 63
4. ✖ 61

Question Number : 16 Question Id : 54592730518 Question Type : MCQ Option Shuffling : Yes

Correct Marks : 1 Wrong Marks : 0.25

लड़कों की एक पंक्ति में विज्ञान, प्रारम्भ से 12वें स्थान पर है और अंत से 19वें स्थान पर है। लड़कों की दूसरी पंक्ति में जतिन प्रारम्भ से 14वां है और अंत से 20वां है। दोनों पंक्तियों में एक साथ कुल कितने लड़के हैं?

Options :

1. ✖ 72

2. ✖ 65

3. ✔ 63

4. ✖ 61

Question Number : 17 Question Id : 54592730519 Question Type : MCQ Option Shuffling : Yes

Correct Marks : 1 Wrong Marks : 0.25

Abhimanyu is son of Anil's father's sister. Prakash is son of Trisha who is mother of Vikash and grandmother of Anil. Hansh is father of Neela and grandfather of Abhimanyu. Trisha is wife of Hansh.

How is Abhimanyu related to Trisha?

Options :

1. ✔ Grandson

2. ✖ Son

3. ✖ Father

4. ✖ Data Inadequate

Question Number : 17 Question Id : 54592730519 Question Type : MCQ Option Shuffling : Yes

Correct Marks : 1 Wrong Marks : 0.25

अभिनमन्यु, अनिल के पिता की बहन का पुत्र है। प्रकाश, तृषा का पुत्र है जो कि विकास की माँ है और अनिल की दादी / नानी हैं। हंस, नीला के पिता हैं और अभिनमन्यु के दादा / नाना हैं। तृषा, हंस की पत्नी हैं।

अभिनमन्यु, तृषा से किस प्रकार सम्बंधित है?

Options :

1. ✓ पोता
2. \* पुत्र
3. \* पिता
4. \* डेटा अपर्याप्त है (Data Inadequate)

Question Number : 18 Question Id : 54592730520 Question Type : MCQ Option Shuffling : Yes  
Correct Marks : 1 Wrong Marks : 0.25



In given questions, there are given three statements followed by two conclusions numbered I and II. You have to take the given statements to be true even if they seem to be at variance from commonly known facts. Read both the conclusions and then decide which of the given conclusions logically follows from the given statement disregarding commonly known facts.

Statements:

- I. All stars are planets.
- II. All planets are moons.
- III. Some planets are comets.

Conclusions:

- I. All stars are moons.
- II. Some stars are comets.

Options :

- 1. ✓ If only conclusion I follow
- 2. ✗ If only conclusion II follows
- 3. ✗ If either conclusion I or II follows
- 4. ✗ If neither conclusion I nor II follow

Question Number : 18 Question Id : 54592730520 Question Type : MCQ Option Shuffling : Yes  
Correct Marks : 1 Wrong Marks : 0.25

नीचे दिए गए प्रश्न में तीन कथन और उसके बाद दो निष्कर्ष । और ॥ दिए गए हैं। आपको दिए गए कथनों को सत्य मानना है भले ही वे सर्वज्ञात तथ्यों से भिन्न प्रतीत होते हों और फिर तय कीजिए कि दिए गए निष्कर्षों में से कौन - सा निष्कर्ष कथनों का तर्कसंगत रूप से अनुसरण करता है, चाहे सर्वज्ञात तथ्य कुछ भी हो।

कथन:

- I. सभी तारे, ग्रह हैं।
- II. सभी ग्रह, चाँद हैं।
- III. कुछ ग्रह धूमकेतु हैं।

निष्कर्ष:

- I. सभी तारे, चाँद हैं।
- II. कुछ तारे, धूमकेतू हैं।

Options :

1. ✓ यदि केवल निष्कर्ष I अनुसरण करता है
2. \* यदि केवल निष्कर्ष II अनुसरण करता है
3. \* यदि या तो निष्कर्ष I या II अनुसरण करता है
4. \* यदि न तो निष्कर्ष I और न ही II अनुसरण करता है

Question Number : 19 Question Id : 54592730521 Question Type : MCQ Option Shuffling : Yes

Correct Marks : 1 Wrong Marks : 0.25

In the following question, there is a statement followed by two courses of action, numbered I and II. You have to assume everything in the statement to be true to decide which of the two suggested courses of action logically follows for pursuing

Statement:

I. Children are eating more junk food than ever before, their health has started suffering.

Course of actions:

I. Put additional tax on junk food making it costly.

II. Ban sale of junk food in and around schools.

Options :

1. ✖ Only I follows.
2. ✖ Only II follows
3. ✖ Either I or II follows.
4. ✔ Neither I nor II follows.

Question Number : 19 Question Id : 54592730521 Question Type : MCQ Option Shuffling : Yes  
Correct Marks : 1 Wrong Marks : 0.25

निम्नलिखित प्रश्न में, एक कथन के बाद दो कार्यवाही । और ॥ है। आपको इस कथन को सत्य मान कर तय करना है की दी गयी दो कार्यवाही में से कौन सा तार्किक रूप से सही है।

कथन:

1. बच्चे पहले से ज्यादा जंक फूड खा रहे हैं, उनकी सेहत पर बुरा असर पड़ने लगा है।

कार्यवाहियां:

1. जंक फूड पर अतिरिक्त कर लगा कर उसे महंगा बनाए।
- ॥. स्कूलों में और आसपास जंक फूड की बिक्री पर प्रतिबंध।

Options :

1. \* केवल I अनुसरण करता है
2. \* केवल II अनुसरण करता है
3. \* या तो I या II अनुसरण करता है
4. ✓ न तो I और न ही II अनुसरण करता है

Question Number : 20 Question Id : 54592730522 Question Type : MCQ Option Shuffling : Yes  
Correct Marks : 1 Wrong Marks : 0.25

Complete the following series.

17,18,22,31,47,?

Options :

1. \* 55
2. ✓ 72
3. \* 54
4. \* 65

Question Number : 20 Question Id : 54592730522 Question Type : MCQ Option Shuffling : Yes

Correct Marks : 1 Wrong Marks : 0.25

निम्नलिखित श्रृंखला को पूरा करें:

17,18,22,31,47,?

Options :

1. ✘ 55

2. ✔ 72

3. ✘ 54

4. ✘ 65

## Mental Ability2

|   |            |
|---|------------|
| Group Number :                            | 2          |
| Group Id :                                | 5459271512 |
| Group Maximum Duration :                  | 0          |
| Group Minimum Duration :                  | 0          |
| Show Attended Group? :                    | No         |
| Edit Attended Group? :                    | No         |
| Break time:                               | 0          |
| Group Marks:                              | 20         |
| Is this Group for Examiner? :             | No         |
| Revisit allowed for group Instructions? : | Yes        |
| Maximum Instruction Time:                 | 0          |
| Minimum Instruction Time:                 | 0          |

## Mental Ability2

|                                      |            |
|--------------------------------------|------------|
| Section Id :                         | 5459271512 |
| Section Number :                     | 1          |
| Section type :                       | Online     |
| Mandatory or Optional:               | Mandatory  |
| Number of Questions:                 | 20         |
| Number of Questions to be attempted: | 20         |
| Section Marks:                       | 20         |

|                     |            |
|---------------------|------------|
| Sub-Section Number: | 1          |
| Sub-Section Id:     | 5459271814 |

Question Number : 21 Question Id : 54592730523 Question Type : MCQ Option Shuffling : Yes  
Correct Marks : 1 Wrong Marks : 0.25

Find the wrong term in the given series:

8, 20, 56, 165, 488

Options :

1. ✖ 8

2. ✖ 20

3. ✖ 56

4. ✔ 165

Question Number : 21 Question Id : 54592730523 Question Type : MCQ Option Shuffling : Yes  
Correct Marks : 1 Wrong Marks : 0.25

दी गई श्रृंखला में गलत पद ज्ञात करें:

8, 20, 56, 165, 488

Options :

1. ✖ 8

2. ✖ 20

3. ✖ 56

4. ✔ 165

Question Number : 22 Question Id : 54592730524 Question Type : MCQ Option Shuffling : Yes  
Correct Marks : 1 Wrong Marks : 0.25

दिए गए विकल्पों में से भिन्न संख्या को चुनें।

Options :

1. ✖ 24

2. ✖ 12

3. ✖ 36

4. ✓ 27

Question Number : 22 Question Id : 54592730524 Question Type : MCQ Option Shuffling : Yes  
Correct Marks : 1 Wrong Marks : 0.25

Choose the odd one from the given options:

Options :

1. ✗ 24

2. ✗ 12

3. ✗ 36

4. ✓ 27

Question Number : 23 Question Id : 54592730525 Question Type : MCQ Option Shuffling : Yes  
Correct Marks : 1 Wrong Marks : 0.25

Choose the odd number pair from the given options:

Options :

1. ✗ 9 : 64

2. ✗ 25 : 216

3. ✗ 49 : 512

4. ✓ 56 : 1331

Question Number : 23 Question Id : 54592730525 Question Type : MCQ Option Shuffling : Yes  
Correct Marks : 1 Wrong Marks : 0.25

दिए गए विकल्पों में से भिन्न संख्या को चुनें।

Options :

1. ✗ 9 : 64

2. ✗ 25 : 216

3. ✗ 49 : 512

4. ✓ 56 : 1331

Question Number : 24 Question Id : 54592730526 Question Type : MCQ Option Shuffling : Yes  
Correct Marks : 1 Wrong Marks : 0.25

Choose the odd number pair from the given options:

Options :

1. ✖ 24 : 6 : 642
2. ✖ 36 : 8 : 863
3. ✖ 15 : 9 : 951
4. ✔ 29 : 8 : 108

Question Number : 24 Question Id : 54592730526 Question Type : MCQ Option Shuffling : Yes  
Correct Marks : 1 Wrong Marks : 0.25

दिए गए विकल्पों में से भिन्न संख्या को चुनें।

Options :

1. ✖ 24 : 6 : 642
2. ✖ 36 : 8 : 863
3. ✖ 15 : 9 : 951
4. ✔ 29 : 8 : 108

Question Number : 25 Question Id : 54592730527 Question Type : MCQ Option Shuffling : Yes  
Correct Marks : 1 Wrong Marks : 0.25

In the following question, select the related letter/word/number from the given alternatives.

(51, 15, 12)

Options :

1. ✖ (42, 30, 6)
2. ✔ (42, 30, 4)
3. ✖ (42, 30, 2)
4. ✖ (42, 32, 4)

Question Number : 25 Question Id : 54592730527 Question Type : MCQ Option Shuffling : Yes  
Correct Marks : 1 Wrong Marks : 0.25



निम्नलिखित प्रश्न में दिए गए विकल्पों में से सम्बन्धित अक्षर/शब्द/संख्या को चुनिए।

(51, 15, 12)

Options :

1. ✖ (42, 30, 6)

2. ✔ (42, 30, 4)

3. ✖ (42, 30, 2)

4. ✖ (42, 32, 4)

Question Number : 26 Question Id : 54592730528 Question Type : MCQ Option Shuffling : Yes

Correct Marks : 1 Wrong Marks : 0.25

Find the missing number.

|    |    |     |     |     |   |
|----|----|-----|-----|-----|---|
| 31 | 61 | 120 | 237 | 470 | ? |
|----|----|-----|-----|-----|---|

Options :

1. ✖ 910

2. ✖ 985

3. ✖ 925

4. ✔ 935

Question Number : 26 Question Id : 54592730528 Question Type : MCQ Option Shuffling : Yes

Correct Marks : 1 Wrong Marks : 0.25

लुप्त संख्या ज्ञात करे:

|    |    |     |     |     |   |
|----|----|-----|-----|-----|---|
| 31 | 61 | 120 | 237 | 470 | ? |
|----|----|-----|-----|-----|---|

Options :

1. ✖ 910

2. ✖ 985

3. ✖ 925

4. ✔ 935

Question Number : 27 Question Id : 54592730529 Question Type : MCQ Option Shuffling : Yes  
Correct Marks : 1 Wrong Marks : 0.25

Select the correct combination of mathematical signs to replace \* signs and to balance the given equation:

$$16 * 4 * 8 * 4 * 8$$

Options :

1. ✖  $\div \times - =$

2. ✖  $\times - + =$

3. ✖  $+ = \div \times$

4. ✔  $- \times \div =$

Question Number : 27 Question Id : 54592730529 Question Type : MCQ Option Shuffling : Yes  
Correct Marks : 1 Wrong Marks : 0.25

\* संकेतों को बदलने और दिए गए समीकरण को संतुलित करने के लिए गणितीय संकेतों के सही संयोजन का चयन करें:

$$16 * 4 * 8 * 4 * 8$$

Options :

1. ✖  $\div \times - =$

2. ✖  $\times - + =$

3. ✖  $+ = \div \times$

4. ✔  $- \times \div =$

Question Number : 28 Question Id : 54592730530 Question Type : MCQ Option Shuffling : Yes  
Correct Marks : 1 Wrong Marks : 0.25

In the question given below, there is a statement followed by two conclusions. You have to take the given statement to be true even if they seem to be at variance with commonly known facts and then decide which of the given conclusion logically follow(s) from the given statements.

Statements:

I.  $J < K \geq O = Z$

Conclusions:

I.  $J > Z$

II.  $Z \leq K$

Options :

1. ✖ Neither conclusion I nor conclusion II is true
2. ✖ Either conclusion I or II is true
3. ✔ Only conclusion II is true
4. ✖ Only conclusion I is true

Question Number : 28 Question Id : 54592730530 Question Type : MCQ Option Shuffling : Yes  
Correct Marks : 1 Wrong Marks : 0.25

नीचे दिए गए प्रश्न में, एक कथन के बाद दो निष्कर्ष हैं। आपको दिए गए कथन को सत्य मानना है, भले ही वे आम तौर पर ज्ञात तथ्यों के साथ विचरण करते हों और फिर तय करें कि दिए गए कथन में से कौन सा निष्कर्ष तार्किक रूप से अनुसरण करता है।

कथन:

$$I. J < K \geq O = Z$$

निष्कर्ष:

$$I. J > Z$$

$$II. Z \leq K$$

Options :

1. \* न तो निष्कर्ष I और न ही निष्कर्ष II सत्य है
2. \* या तो निष्कर्ष I या II सत्य है
3. ✓ केवल निष्कर्ष II सत्य है
4. \* केवल निष्कर्ष I सत्य है

Question Number : 29 Question Id : 54592730531 Question Type : MCQ Option Shuffling : Yes  
Correct Marks : 1 Wrong Marks : 0.25

Choose the odd number from the given options:

Options :

1. \* 514
2. \* 1333
3. ✓ 1002
4. \* 1732

Question Number : 29 Question Id : 54592730531 Question Type : MCQ Option Shuffling : Yes  
Correct Marks : 1 Wrong Marks : 0.25

दिए गए विकल्पों में से भिन्न संख्या को चुनें।

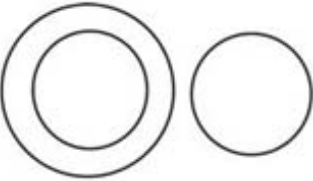
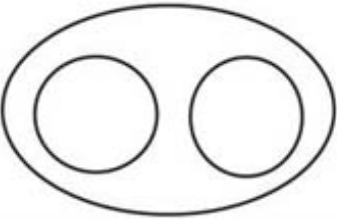
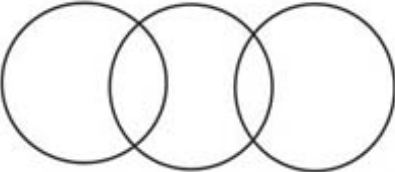
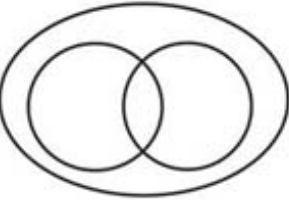
Options :

- 1. ✖ 514
- 2. ✖ 1333
- 3. ✔ 1002
- 4. ✖ 1732

Question Number : 30 Question Id : 54592730532 Question Type : MCQ Option Shuffling : Yes  
Correct Marks : 1 Wrong Marks : 0.25

Which of the following diagrams best represents a relationship among Engineer, Software engineer and Chemical engineer?

Options :

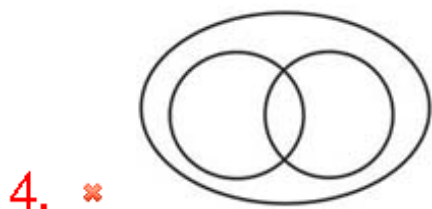
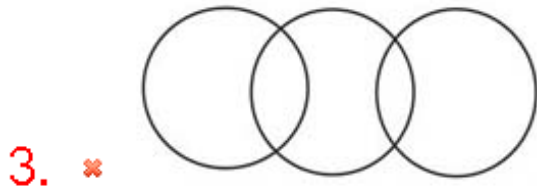
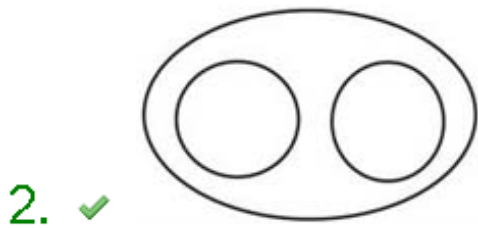

- 1. ✖ 
- 2. ✔ 
- 3. ✖ 
- 4. ✖ 

Question Number : 30 Question Id : 54592730532 Question Type : MCQ Option Shuffling : Yes

Correct Marks : 1 Wrong Marks : 0.25

निम्नलिखित में से कौन सा चित्र इंजीनियर, सॉफ्टवेयर इंजीनियर और रासायनिक इंजीनियर के बीच संबंध का प्रतिनिधित्व करता है?

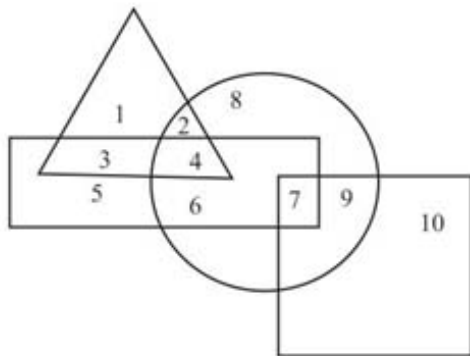
Options :



Question Number : 31 Question Id : 54592730533 Question Type : MCQ Option Shuffling : Yes

Correct Marks : 1 Wrong Marks : 0.25

In the given figure, the circle represents person who have Current account, rectangle represents Fixed account, and Square represents Salary account and triangle represents Saving account. Which number represents the group of person having current account as well as salary account but do not fixed account and saving account?



Options :

1. ✓ 9

2. ✗ 7

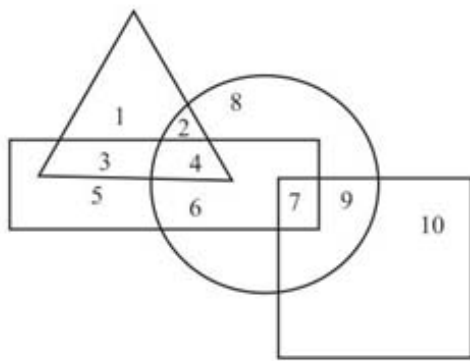
3. ✗ 6

4. ✗ 4

Question Number : 31 Question Id : 54592730533 Question Type : MCQ Option Shuffling : Yes

Correct Marks : 1 Wrong Marks : 0.25

दी गए आकृति में, वृत्त ,उन व्यक्तियों का प्रतिनिधित्व करता है जिनके पास चालू खाता है, आयत निश्चित खाते का प्रतिनिधित्व करता है, और वर्ग वेतन खाते का प्रतिनिधित्व करता है और त्रिकोण बचत खाते का प्रतिनिधित्व करता है। कौन सी संख्या चालू खाते के साथ-साथ वेतन खाते वाले व्यक्ति के समूह का प्रतिनिधित्व करती है लेकिन निश्चित खाता और बचत खाता वाले व्यक्तियों का नहीं है?



Options :

1. ✓ 9
2. ✗ 7
3. ✗ 6
4. ✗ 4

Question Number : 32 Question Id : 54592730534 Question Type : MCQ Option Shuffling : Yes  
Correct Marks : 1 Wrong Marks : 0.25

In following question, set a four figures forming the problem figure and four other answer figures Select a answer figure which possess the same characteristics.

Problem Figures:



Options :





Question Number : 32 Question Id : 54592730534 Question Type : MCQ Option Shuffling : Yes

Correct Marks : 1 Wrong Marks : 0.25

निम्नलिखित प्रश्न में, चार चित्र प्रश्न आकृति में और चार उत्तर-आकृति के रूप में दिए गए हैं। उस उत्तर आकृति का चयन करें जिसमें समान विशेषता हो।

प्रश्न आकृति



Options :

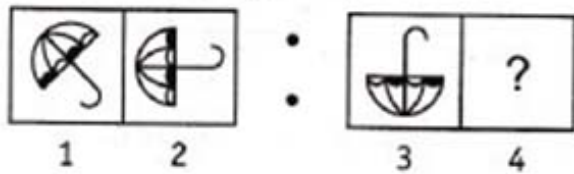




Question Number : 33 Question Id : 54592730535 Question Type : MCQ Option Shuffling : Yes  
Correct Marks : 1 Wrong Marks : 0.25

The second figure in the first unit of the problem figures bears a certain relationship to the first figure. Similarly, You have to select that figure from the set of answer figures which would come in the place of question mark (?)

**Problem Figures**



Options :



4. ✖

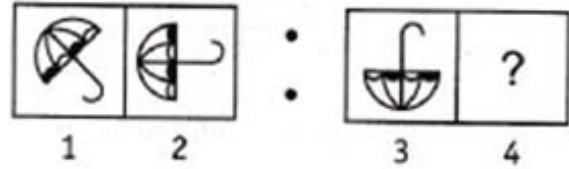


Question Number : 33 Question Id : 54592730535 Question Type : MCQ Option Shuffling : Yes

Correct Marks : 1 Wrong Marks : 0.25

प्रश्न आकृति के पहले सेट की दूसरी आकृति, पहली आकृति से एक निश्चित सम्बन्ध रखती है। उसी तरीके से, आपको उत्तर आकृति के सेट से उस आकृति का चयन करना होगा जो प्रश्न चिह्न (?) के स्थान पर आएगा।

प्रश्न आकृति



Options :



4. ✘

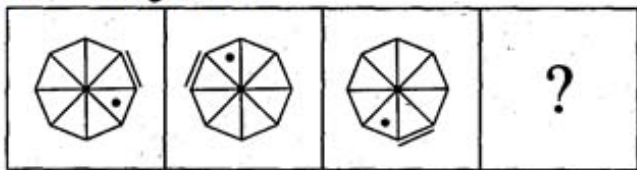


Question Number : 34 Question Id : 54592730536 Question Type : MCQ Option Shuffling : Yes

Correct Marks : 1 Wrong Marks : 0.25

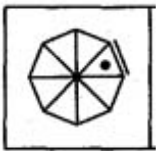
Choose an appropriate figure from the four numbered figures for the place of the questions mark (?).

**Problem Figures:**

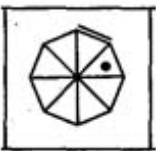


Options :

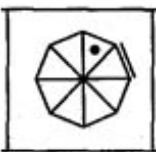
1. ✘



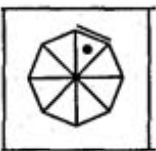
2. ✔



3. ✘



4. ✘

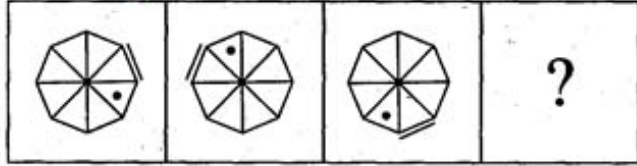


Question Number : 34 Question Id : 54592730536 Question Type : MCQ Option Shuffling : Yes

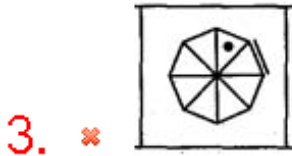
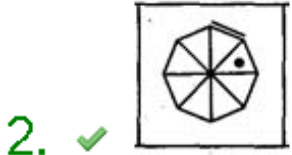
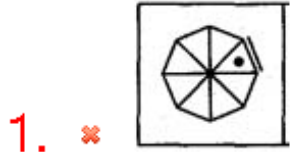
Correct Marks : 1 Wrong Marks : 0.25

प्रश्न चिह्न (?) के स्थान पर उत्तर आकृति के रूप में एक उचित आकृति चुनें।

प्रश्न आकृति:



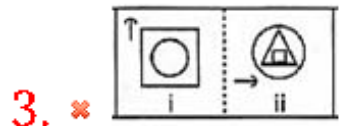
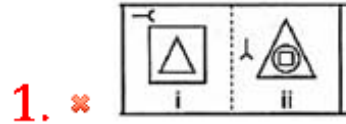
Options :



Question Number : 35 Question Id : 54592730537 Question Type : MCQ Option Shuffling : Yes  
Correct Marks : 1 Wrong Marks : 0.25

In the following questions, element (ii) is related to element (i) in a particular way in four pairs of figures. Find out the pair of figures in which the element (ii) is not related to element (i).

Options :

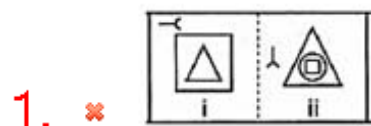


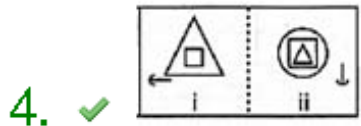
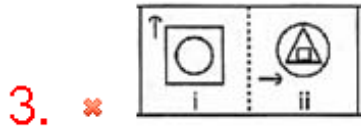
Question Number : 35 Question Id : 54592730537 Question Type : MCQ Option Shuffling : Yes

Correct Marks : 1 Wrong Marks : 0.25

निम्नलिखित प्रश्नों में, आकृति के चारो भाग में तत्व (ii) तत्व (i) से एक निश्चित प्रकार से संबंधित है। उन आकृति जोड़ो का पता लगाएं जिनमे तत्व (ii), तत्व (i) से संबंधित नहीं है ।

Options :





Question Number : 36 Question Id : 54592730538 Question Type : MCQ Option Shuffling : Yes  
 Correct Marks : 1 Wrong Marks : 0.25

Choose the correct water image from the given alternatives.

MUNDANE  
 =====

Options :

1. ✘ EUNDANM

2. ✘ EUMDANM

3. ✔ MUNDANE

4. ✘ MUNDANE

Question Number : 36 Question Id : 54592730538 Question Type : MCQ Option Shuffling : Yes  
 Correct Marks : 1 Wrong Marks : 0.25

दिए गए विकल्पों में से आकृति की सही पानी की छवि आकृति ज्ञात कीजिए।

MUNDANE  
=====

Options :

1. ✘ EUNDANM

2. ✘ EUMDANM

3. ✔ MUNDANE

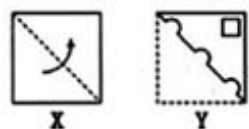
4. ✘ MUNDANE

Question Number : 37 Question Id : 54592730539 Question Type : MCQ Option Shuffling : Yes

Correct Marks : 1 Wrong Marks : 0.25

In the following question a piece of paper is folded in the manner shown in the question figure(s). Select the figure showing the unfolded pattern after the punches (cut).

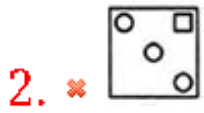
Question Figure:



Options :

1. ✘

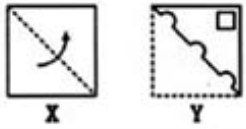




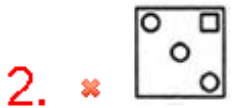
Question Number : 37 Question Id : 54592730539 Question Type : MCQ Option Shuffling : Yes  
Correct Marks : 1 Wrong Marks : 0.25

निम्नलिखित प्रश्न में एक कागज के टुकड़े को प्रश्न आकृति में दर्शाए गए तरीके से मोड़ा गया है। कट के बाद प्राप्त पैटर्न को दर्शाने वाले उत्तर विकल्पों में से आकृति का चयन करें।

प्रश्न आकृति:



Options :

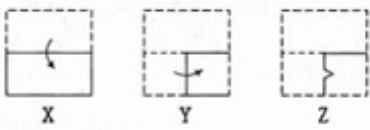




Question Number : 38 Question Id : 54592730540 Question Type : MCQ Option Shuffling : Yes  
 Correct Marks : 1 Wrong Marks : 0.25

In the following question a piece of paper is folded in the manner shown in the question figure(s). Select the figure showing the unfolded pattern after the punches (cut).

Question Figures



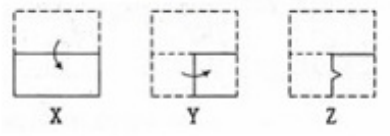
Options :



Question Number : 38 Question Id : 54592730540 Question Type : MCQ Option Shuffling : Yes  
 Correct Marks : 1 Wrong Marks : 0.25

निम्नलिखित प्रश्न में एक कागज के टुकड़े को प्रश्न आकृति में दर्शाए गए तरीके से मोड़ा गया है। कट के बाद प्राप्त पैटर्न को दर्शाने वाले उत्तर विकल्पों में से आकृति का चयन करें।

प्रश्न आकृति:

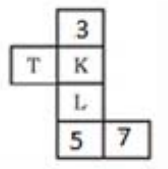


Options :



Question Number : 39 Question Id : 54592730541 Question Type : MCQ Option Shuffling : Yes Correct Marks : 1 Wrong Marks : 0.25

In the following question an unfolded dice is given . From the given alternatives which of the following will be opposite of 7 ?



Options :

1. ✖ U

2. ✔ T

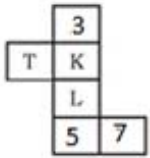
3. ✖ L

4. ✖ K

Question Number : 39 Question Id : 54592730541 Question Type : MCQ Option Shuffling : Yes

Correct Marks : 1 Wrong Marks : 0.25

निम्नलिखित प्रश्न में एक खुला पासा दिया गया है। दिए गए विकल्पों में से कौन सा 7 के विपरीत होगा?



Options :

1. ✖ U

2. ✔ T

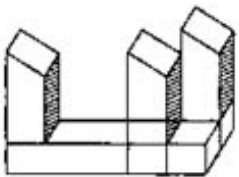
3. ✖ L

4. ✖ K

Question Number : 40 Question Id : 54592730542 Question Type : MCQ Option Shuffling : Yes

Correct Marks : 1 Wrong Marks : 0.25

Count the number of blocks in the given figure.



Options :

1. ✖ 6

2. ✔ 7

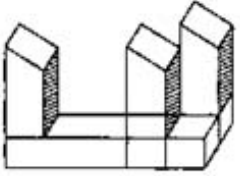
3. ✖ 8

4. ✖ 9

Question Number : 40 Question Id : 54592730542 Question Type : MCQ Option Shuffling : Yes

Correct Marks : 1 Wrong Marks : 0.25

दिए गए आंकड़े में ब्लॉकों की संख्या ज्ञात कीजिए।



Options :

1. ✖ 6

2. ✔ 7

3. ✖ 8

4. ✖ 9

## General Awareness1

|   |            |
|---|------------|
| Group Number :                            | 3          |
| Group Id :                                | 5459271513 |
| Group Maximum Duration :                  | 0          |
| Group Minimum Duration :                  | 0          |
| Show Attended Group? :                    | No         |
| Edit Attended Group? :                    | No         |
| Break time:                               | 0          |
| Group Marks:                              | 20         |
| Is this Group for Examiner?:              | No         |
| Revisit allowed for group Instructions? : | Yes        |
| Maximum Instruction Time:                 | 0          |
| Minimum Instruction Time:                 | 0          |

## General Awareness1

|                        |            |
|------------------------|------------|
| Section Id :           | 5459271513 |
| Section Number :       | 1          |
| Section type :         | Online     |
| Mandatory or Optional: | Mandatory  |
| Number of Questions:   | 20         |

Number of Questions to be attempted: 20  
Section Marks: 20

Sub-Section Number: 1  
Sub-Section Id: 5459271815  
Question Shuffling Allowed : Yes

Question Number : 41 Question Id : 54592730543 Question Type : MCQ Option Shuffling : Yes  
Correct Marks : 1 Wrong Marks : 0.25

Which of the following dances is not correctly matched with the region it is related to?

Options :

1. \* Chholiya – North India
2. \* Gotipua – East India
3. ✓ Padayani – West India
4. \* Kummi – South India

Question Number : 41 Question Id : 54592730543 Question Type : MCQ Option Shuffling : Yes  
Correct Marks : 1 Wrong Marks : 0.25

निम्नलिखित में से कौन सा नृत्य उस क्षेत्र से सही रूप से मेल नहीं खाता है, जिससे वह सम्बंधित है?

Options :

1. \* छोलिया - उत्तर भारत
2. \* गोटीपुआ - पूर्वी भारत
3. ✓ पडायनी - पश्चिम भारत
4. \* कुम्मी - दक्षिण भारत

Question Number : 42 Question Id : 54592730544 Question Type : MCQ Option Shuffling : Yes  
Correct Marks : 1 Wrong Marks : 0.25

Mando is a very popular regional music of \_\_\_\_\_.

Options :

1. \* Odisha
2. ✓ Goa

3. \* Rajasthan

4. \* Bihar

Question Number : 42 Question Id : 54592730544 Question Type : MCQ Option Shuffling : Yes

Correct Marks : 1 Wrong Marks : 0.25

मांडो एक बहुत लोकप्रिय क्षेत्रीय संगीत है:

Options :

1. \* ओडिशा

2. ✓ गोवा

3. \* राजस्थान

4. \* बिहार

Question Number : 43 Question Id : 54592730545 Question Type : MCQ Option Shuffling : Yes

Correct Marks : 1 Wrong Marks : 0.25

Lai Haroba is one of the main festivals and a folk-dance of \_\_\_\_\_.

Options :

1. \* Assam

2. ✓ Manipur

3. \* Mizoram

4. \* Meghalaya

Question Number : 43 Question Id : 54592730545 Question Type : MCQ Option Shuffling : Yes

Correct Marks : 1 Wrong Marks : 0.25

लाई हरोबा कहाँ के मुख्य त्योहारों और लोक-नृत्य में से एक है?

Options :

1. \* असम

2. ✓ मणिपुर

3. \* मिजोरम

4. \* मेघालय

Question Number : 44 Question Id : 54592730546 Question Type : MCQ Option Shuffling : Yes

Correct Marks : 1 Wrong Marks : 0.25

The India Gate was designed by (i)\_\_\_\_\_ after the (ii)\_\_\_\_\_.

Options :

1. ✓ (i) Edwin Lutyens (ii) World War I
2. ✗ (i) Edwin Lutyens (ii) World War II
3. ✗ (i) Herbert Baker (ii) World War I
4. ✗ (i) Herbert Baker (ii) World War II

Question Number : 44 Question Id : 54592730546 Question Type : MCQ Option Shuffling : Yes

Correct Marks : 1 Wrong Marks : 0.25

इंडिया गेट को (ii) \_\_\_\_\_ के बाद (i) \_\_\_\_\_ द्वारा डिज़ाइन किया गया था।

Options :

1. ✓ (i) एडविन लुटियन (ii) प्रथम विश्व युद्ध
2. ✗ (i) एडविन लुटियंस (ii) द्वितीय विश्व युद्ध
3. ✗ (i) हर्बर्ट बेकर (ii) प्रथम विश्व युद्ध
4. ✗ (i) हर्बर्ट बेकर (ii) द्वितीय विश्व युद्ध

Question Number : 45 Question Id : 54592730547 Question Type : MCQ Option Shuffling : Yes

Correct Marks : 1 Wrong Marks : 0.25

How much Tax Deducted at Source (TDS) has been applied on cash withdrawal exceeding Rs. 1 crore in a year from a bank account by the Union Budget 2019?

Options :

1. ✗ 1 percent
2. ✓ 2 percent
3. ✗ 3 percent
4. ✗ 4 percent

Question Number : 45 Question Id : 54592730547 Question Type : MCQ Option Shuffling : Yes



Correct Marks : 1 Wrong Marks : 0.25

केंद्रीय बजट 2019 द्वारा बैंक खाते से एक वर्ष में 1 करोड़ रुपये से अधिक की नकद निकासी पर कितने स्रोत पर कर कटौती (टीडीएस) लगाया गया है?

Options :

1. ✖ 1 प्रतिशत
2. ✔ 2 प्रतिशत
3. ✖ 3 प्रतिशत
4. ✖ 4 प्रतिशत

Question Number : 46 Question Id : 54592730548 Question Type : MCQ Option Shuffling : Yes

Correct Marks : 1 Wrong Marks : 0.25

A chapter in the Economic Survey 2018-19 is named “Nourishing Dwarfs to become Giants”. What does the “dwarf” symbolize?

Options :

1. ✖ Women
2. ✔ MSMEs (Micro Small and Medium Enterprises)
3. ✖ Below Poverty Line people
4. ✖ Foreign Investors in India

Question Number : 46 Question Id : 54592730548 Question Type : MCQ Option Shuffling : Yes

Correct Marks : 1 Wrong Marks : 0.25

आर्थिक समीक्षा 2018-19 के एक अध्याय का नाम है “छोटो को पोषित कर, उन्हें विशाल बनाना”। इसमें “छोटो” किस का प्रतीक है?

Options :

1. ✖ स्त्री
2. ✔ एमएसएमई (सूक्ष्म लघु और मध्यम उद्यम)
3. ✖ गरीबी रेखा से नीचे के लोग

## 4. \* भारत में विदेशी निवेशक

Question Number : 47 Question Id : 54592730549 Question Type : MCQ Option Shuffling : Yes  
Correct Marks : 1 Wrong Marks : 0.25

As per the Economic Survey 2018-19, the global economy grew at (i)\_\_\_\_ in 2018, while the Indian economy grew at (ii)\_\_\_\_ in the same year.

Options :

1. \* (i) 3.8 percent (ii) 7.2 percent
2. ✓ (i) 3.6 percent (ii) 6.8 percent
3. \* (i) 3.8 percent (ii) 6.8 percent
4. \* (i) 3.6 percent (ii) 7.2 percent

Question Number : 47 Question Id : 54592730549 Question Type : MCQ Option Shuffling : Yes  
Correct Marks : 1 Wrong Marks : 0.25

आर्थिक समीक्षा 2018-19 के अनुसार, वैश्विक अर्थव्यवस्था 2018 में (i) \_\_\_\_\_ पर बढ़ी, जबकि भारतीय अर्थव्यवस्था उसी वर्ष (ii) \_\_\_\_\_ से बढ़ी।

Options :

1. \* (i) 3.8 प्रतिशत (ii) 7.2 प्रतिशत
2. ✓ (i) 3.6 प्रतिशत (ii) 6.8 प्रतिशत
3. \* (i) 3.8 प्रतिशत (ii) 6.8 प्रतिशत
4. \* (i) 3.6 प्रतिशत (ii) 7.2 प्रतिशत

Question Number : 48 Question Id : 54592730550 Question Type : MCQ Option Shuffling : Yes  
Correct Marks : 1 Wrong Marks : 0.25

A simple electric circuit in which a straight copper wire is placed parallel to and over a compass needle. The deflection in the needle becomes (i)\_\_\_\_ when the direction of the current is (ii)\_\_\_\_\_.

Options :

1. ✖ (i) in same direction, (ii) reversed
2. ✔ (i) opposite, (ii) reversed
3. ✖ (i) opposite, (ii) in the same direction
4. ✖ (i) zero , (ii) reversed

Question Number : 48 Question Id : 54592730550 Question Type : MCQ Option Shuffling : Yes  
Correct Marks : 1 Wrong Marks : 0.25

एक सरल विद्युत परिपथ जिसमें किसी लंबे तॉबे के तार को किसी दिक्सूची के ऊपर तथा उसकी सुई के समांतर रखा गया है। जब तार में विद्युत धारा के प्रवाह की दिशा (ii)\_\_\_\_होती है तो दिक्सूची का विक्षेप (i)\_\_\_\_\_ में होता है।

Options :

1. ✖ (i) उसी दिशा में, (ii) उत्क्रमित
2. ✔ (i) विपरीत दिशा में, (ii) उत्क्रमित
3. ✖ (i) विपरीत दिशा में, (ii) पूर्व दिशा के सामान
4. ✖ (i) शून्य, (ii) उत्क्रमित

Question Number : 49 Question Id : 54592730551 Question Type : MCQ Option Shuffling : Yes  
Correct Marks : 1 Wrong Marks : 0.25

Chemical name of vinegar is (i)\_\_\_\_\_ and Baking soda is (ii)\_\_\_\_\_.

Options :

1. ✖ (i) Copper sulphate, (ii) Potassium hydrogencarbonate
2. ✖ (i) Iron sulphate, (ii) Potassium hydrogencarbonate
3. ✔ (i) Acetic acid, (ii) Sodium hydrogencarbonate
4. ✖ (i) Acetic acid,(ii) Copper sulphate

Question Number : 49 Question Id : 54592730551 Question Type : MCQ Option Shuffling : Yes  
Correct Marks : 1 Wrong Marks : 0.25

सिरका का रासायनिक नाम (i) \_\_\_\_\_ है और खाने का सोडा का नाम (ii) \_\_\_\_\_ है।

Options :

1. \* (i) कॉपर सल्फेट, (ii) पोटेशियम हाइड्रोजेनकार्बोनेट
2. \* (i) आयरन सल्फेट, (ii) पोटेशियम हाइड्रोजेनकार्बोनेट
3. ✓ (i) एसिटिक अम्ल , (ii) सोडियम हाइड्रोजेनकार्बोनेट
4. \* (i) एसिटिक अम्ल , (ii) कॉपर सल्फेट

Question Number : 50 Question Id : 54592730552 Question Type : MCQ Option Shuffling : Yes

Correct Marks : 1 Wrong Marks : 0.25

The process of taking food in the body is known as:

Options :

1. \* Digestion
2. \* Egestion
3. ✓ Ingestion
4. \* Absorption

Question Number : 50 Question Id : 54592730552 Question Type : MCQ Option Shuffling : Yes

Correct Marks : 1 Wrong Marks : 0.25

आहार को शरीर के अंदर लेने की क्रिया को क्या कहते हैं?

Options :

1. \* पाचन तंत्र
2. \* निष्कासन
3. ✓ अंतर्ग्रहण
4. \* अवशोषण

Question Number : 51 Question Id : 54592730553 Question Type : MCQ Option Shuffling : Yes

Correct Marks : 1 Wrong Marks : 0.25

Which of the following is the cause of phenomenon “Marble Cancer”?

Options :

1. \* Volcanic eruption
2. \* Hole in the ozone layer
3. ✓ Acid Rain
4. \* Global warming

Question Number : 51 Question Id : 54592730553 Question Type : MCQ Option Shuffling : Yes

Correct Marks : 1 Wrong Marks : 0.25

निम्नलिखित में से कौन सी घटना "संगमरमर कैंसर" का कारण है?

Options :

1. \* ज्वालामुखी विस्फोट
2. \* ओजोन परत में छेद
3. ✓ अम्ल वर्षा
4. \* विश्व ऊष्णन (ग्लोबल वॉर्मिंग)

Question Number : 52 Question Id : 54592730554 Question Type : MCQ Option Shuffling : Yes

Correct Marks : 1 Wrong Marks : 0.25

If you visit a garden you will find different plants and animals. All these living organisms interact with each other and their growth, reproduction and other activities are affected by the abiotic components. So, garden is an example of:

Options :

1. \* Food Web
2. \* Food Chain
3. ✓ Artificial ecosystem
4. \* Natural ecosystem

Question Number : 52 Question Id : 54592730554 Question Type : MCQ Option Shuffling : Yes

Correct Marks : 1 Wrong Marks : 0.25

यदि आप एक बगीचे में जाते हैं तो आपको विभिन्न पौधे और जानवर मिलेंगे। यह सभी सजीव परस्पर अन्योन्यक्रिया करते हैं तथा इनकी वृद्धि, जनन एवं अन्य क्रियाकलाप के अजैव घटकों द्वारा प्रभावित होते हैं। तो, बगीचा किसका एक उदाहरण है?

Options :

1. \* आहार जाल
2. \* आहार श्रृंखला
3. ✓ कृत्रिम पारितंत्र
4. \* प्राकृतिक पारितंत्र

Question Number : 53 Question Id : 54592730555 Question Type : MCQ Option Shuffling : Yes

Correct Marks : 1 Wrong Marks : 0.25

The F diagram of sanitation depicts how germs spread and how that can be prevented. Which of the following is not a part of F diagram?

Options :

1. \* Fluids
2. \* Fingers
3. \* Flies
4. ✓ Flush

Question Number : 53 Question Id : 54592730555 Question Type : MCQ Option Shuffling : Yes

Correct Marks : 1 Wrong Marks : 0.25

स्वच्छता का एफ (F) आरेख बताता है कि रोगाणु कैसे फैलते हैं और इसे कैसे रोका जा सकता है। निम्नलिखित में से कौन एफ (F) आरेख का हिस्सा नहीं है?

Options :

1. \* फ्लूइड (तरल पदार्थ)
2. \* फिंगर्स (ऊंगली)

3. ✖ फलाई (मखियाँ)

4. ✔ फलश (बहा देना)

Question Number : 54 Question Id : 54592730556 Question Type : MCQ Option Shuffling : Yes

Correct Marks : 1 Wrong Marks : 0.25

Ascaris is a parasite of \_\_\_\_\_.

Options :

1. ✖ Throat

2. ✖ Mouth

3. ✔ Intestine

4. ✖ Kidney

Question Number : 54 Question Id : 54592730556 Question Type : MCQ Option Shuffling : Yes

Correct Marks : 1 Wrong Marks : 0.25

एस्केरिसता \_\_\_\_\_ का परजीवी है।

Options :

1. ✖ गला

2. ✖ मुंह

3. ✔ आंत

4. ✖ गुर्दा

Question Number : 55 Question Id : 54592730557 Question Type : MCQ Option Shuffling : Yes

Correct Marks : 1 Wrong Marks : 0.25

Innate immunity is:

Options :

1. ✔ Present at the time of birth

2. ✖ Develops after 12 years of age

3. ✖ Develops after 25 years of age

4. ✖ Develops after 50 years of age

Question Number : 55 Question Id : 54592730557 Question Type : MCQ Option Shuffling : Yes

Correct Marks : 1 Wrong Marks : 0.25

सहज प्रतिरक्षा \_\_\_\_\_।

Options :

1. ✓ जन्म के समय मौजूद होती है
2. ✘ 12 साल की उम्र के बाद विकसित होती है
3. ✘ 25 साल की उम्र के बाद विकसित होती है
4. ✘ 50 वर्ष की आयु के बाद विकसित होती है

Question Number : 56 Question Id : 54592730558 Question Type : MCQ Option Shuffling : Yes

Correct Marks : 1 Wrong Marks : 0.25

In which of the following pairs of states does the river Narmada flow?

Options :

1. ✘ Madhya Pradesh and Uttar Pradesh
2. ✘ Chhattisgarh and Odisha
3. ✓ Madhya Pradesh and Gujarat
4. ✘ Rajasthan and Gujarat

Question Number : 56 Question Id : 54592730558 Question Type : MCQ Option Shuffling : Yes

Correct Marks : 1 Wrong Marks : 0.25

निम्नलिखित में से कौन से राज्यों के जोड़े में नर्मदा नदी बहती है?

Options :

1. ✘ मध्य प्रदेश और उत्तर प्रदेश
2. ✘ छत्तीसगढ़ और ओडिशा
3. ✓ मध्य प्रदेश और गुजरात
4. ✘ राजस्थान और गुजरात

Question Number : 57 Question Id : 54592730559 Question Type : MCQ Option Shuffling : Yes

Correct Marks : 1 Wrong Marks : 0.25

Which of the following physical features have the hill station Mussoorie?

Options :



1. ✓ The Himachal and Uttarakhand Himalayas
2. ✘ Kashmir or Northwestern Himalayas
3. ✘ The Darjiling and Sikkim Himalayas
4. ✘ The Arunachal Himalayas

Question Number : 57 Question Id : 54592730559 Question Type : MCQ Option Shuffling : Yes  
Correct Marks : 1 Wrong Marks : 0.25

निम्न में से किस भौतिक आकृति में हिल स्टेशन मसूरी है?

Options :

1. ✓ हिमाचल और उत्तराखंड हिमालय
2. ✘ कश्मीर या पश्चिमोत्तर हिमालय
3. ✘ दार्जिलिंग और सिक्किम हिमालय
4. ✘ अरुणाचल हिमालय

Question Number : 58 Question Id : 54592730560 Question Type : MCQ Option Shuffling : Yes  
Correct Marks : 1 Wrong Marks : 0.25

Which of the following is not a method of soil conservation?

Options :

1. ✘ Mulching
2. ✘ Intercropping
3. ✘ Shelter belts
4. ✓ Exfoliation

Question Number : 58 Question Id : 54592730560 Question Type : MCQ Option Shuffling : Yes  
Correct Marks : 1 Wrong Marks : 0.25

निम्नलिखित में से कौन सा मिट्टी संरक्षण का एक तरीका नहीं है?

Options :

1. ✘ मल्ल बनाना
2. ✘ बीच की फसल उगाना
3. ✘ रक्षक मेखलाएँ

#### 4. ✓ अपशल्कन

Question Number : 59 Question Id : 54592730561 Question Type : MCQ Option Shuffling : Yes  
Correct Marks : 1 Wrong Marks : 0.25

Which of the following crops is the major food crop in the world and is the staple diet of the tropical and sub-tropical regions?

Options :

1. ✓ Rice
2. ✗ Wheat
3. ✗ Millets
4. ✗ Maize

Question Number : 59 Question Id : 54592730561 Question Type : MCQ Option Shuffling : Yes  
Correct Marks : 1 Wrong Marks : 0.25

निम्नलिखित में से कौन सी फसल विश्व की प्रमुख खाद्य फसल है और उष्णकटिबंधीय तथा उपोष्णकटिबंधीय क्षेत्रों का मुख्य आहार है?

Options :

1. ✓ चावल
2. ✗ गेहूं
3. ✗ बाजरा
4. ✗ मक्का

Question Number : 60 Question Id : 54592730562 Question Type : MCQ Option Shuffling : Yes  
Correct Marks : 1 Wrong Marks : 0.25

If the following countries are arranged in decreasing order of their population, then what will be the correct sequence?

Options :

1. ✗ China, USA, Indonesia, India
2. ✗ India, China, Indonesia, USA
3. ✓ China, India, USA, Indonesia

## 4. \* India, China, USA, Indonesia

Question Number : 60 Question Id : 54592730562 Question Type : MCQ Option Shuffling : Yes  
Correct Marks : 1 Wrong Marks : 0.25

यदि निम्न देशों को उनकी जनसंख्या के घटते क्रम में व्यवस्थित किया जाता है, तो सही क्रम क्या होगा?

Options :

1. \* चीन, अमेरिका के संयुक्त राज्य, इंडोनेशिया, भारत
2. \* भारत, चीन, इंडोनेशिया, अमेरिका के संयुक्त राज्य
3. ✓ चीन, भारत, अमेरिका के संयुक्त राज्य, इंडोनेशिया
4. \* भारत, चीन, अमेरिका के संयुक्त राज्य, इंडोनेशिया

## General Awareness2

|   |            |
|---|------------|
| Group Number :                            | 4          |
| Group Id :                                | 5459271514 |
| Group Maximum Duration :                  | 0          |
| Group Minimum Duration :                  | 0          |
| Show Attended Group? :                    | No         |
| Edit Attended Group? :                    | No         |
| Break time:                               | 0          |
| Group Marks:                              | 20         |
| Is this Group for Examiner? :             | No         |
| Revisit allowed for group Instructions? : | Yes        |
| Maximum Instruction Time:                 | 0          |
| Minimum Instruction Time:                 | 0          |

## General Awareness2

|                                      |            |
|--------------------------------------|------------|
| Section Id :                         | 5459271514 |
| Section Number :                     | 1          |
| Section type :                       | Online     |
| Mandatory or Optional:               | Mandatory  |
| Number of Questions:                 | 20         |
| Number of Questions to be attempted: | 20         |
| Section Marks:                       | 20         |

|                     |            |
|---------------------|------------|
| Sub-Section Number: | 1          |
| Sub-Section Id:     | 5459271816 |

Question Number : 61 Question Id : 54592730563 Question Type : MCQ Option Shuffling : Yes

Correct Marks : 1 Wrong Marks : 0.25

Which of the following states does not share its borders with Pakistan?

Options :

1. \* Rajasthan
2. \* Punjab
3. ✓ Harayana
4. \* Gujarat

Question Number : 61 Question Id : 54592730563 Question Type : MCQ Option Shuffling : Yes

Correct Marks : 1 Wrong Marks : 0.25

निम्नलिखित में से कौन सा राज्य पाकिस्तान के साथ अपनी सीमाओं को साझा नहीं करता है?

Options :

1. \* राजस्थान
2. \* पंजाब
3. ✓ हरयाणा
4. \* गुजरात

Question Number : 62 Question Id : 54592730564 Question Type : MCQ Option Shuffling : Yes

Correct Marks : 1 Wrong Marks : 0.25

Which of the following statements about the Rigveda is incorrect?

Options :

1. \* It contains more than a thousand suktas
2. \* The hymns were composed by sages
3. ✓ All the hymns were composed by men
4. \* These hymns are in praise of various gods and goddesses

Question Number : 62 Question Id : 54592730564 Question Type : MCQ Option Shuffling : Yes  
Correct Marks : 1 Wrong Marks : 0.25

ऋग्वेद के बारे में निम्नलिखित में से कौन सा कथन गलत है?

Options :

1. \* इसमें एक हजार से अधिक सूक्त शामिल हैं।
2. \* भजन ऋषियों द्वारा रचे गए थे।
3. ✓ सभी भजन पुरुषों द्वारा रचे गए थे।
4. \* ये भजन विभिन्न देवी-देवताओं की स्तुति में हैं।

Question Number : 63 Question Id : 54592730565 Question Type : MCQ Option Shuffling : Yes  
Correct Marks : 1 Wrong Marks : 0.25

Consider the following schools of Indian philosophy and identify the option not correctly matched with the founder of that philosophy.

Options :

1. ✓ Samkhya – Konada
2. \* Nyaya – Gotama
3. \* Yoga – Patanjali
4. \* Purva Mimansa – Jamini

Question Number : 63 Question Id : 54592730565 Question Type : MCQ Option Shuffling : Yes  
Correct Marks : 1 Wrong Marks : 0.25

भारतीय दर्शन के निम्नलिखित पद्धति पर विचार करें और उस दर्शन के संस्थापक से सही ढंग से मेल नहीं खाने वाले विकल्प की पहचान करें।

Options :

1. ✓ सांख्य - कोनदा
2. \* न्याय - गोटामा
3. \* योग - पतंजलि
4. \* पूर्वा मीमांसा - जैमिनी

Question Number : 64 Question Id : 54592730566 Question Type : MCQ Option Shuffling : Yes

Correct Marks : 1 Wrong Marks : 0.25

Which time-period belongs to the Khalji dynasty?

Options :

1. ✘ 1206-1236
2. ✔ 1290-1320
3. ✘ 1320-1414
4. ✘ 1414-1451

Question Number : 64 Question Id : 54592730566 Question Type : MCQ Option Shuffling : Yes

Correct Marks : 1 Wrong Marks : 0.25

खिलजी वंश का संबंध किस समय-अवधि से है?

Options :

1. ✘ 1206 - 1236
2. ✔ 1290 - 1320
3. ✘ 1320 - 1414
4. ✘ 1414 - 1451

Question Number : 65 Question Id : 54592730567 Question Type : MCQ Option Shuffling : Yes

Correct Marks : 1 Wrong Marks : 0.25

Which Mughal emperor had a brother called Mirza Kamran, who conspired against him?

Options :

1. ✘ Babur
2. ✘ Akbar
3. ✔ Humayun
4. ✘ Jehangir

Question Number : 65 Question Id : 54592730567 Question Type : MCQ Option Shuffling : Yes

Correct Marks : 1 Wrong Marks : 0.25

किस मुगल सम्राट का मिर्जा कामरान नामक एक भाई था, जिसने उसके खिलाफ साजिश रची?

Options :

1. ✖ बाबर
2. ✖ अकबर
3. ✔ हुमायूँ
4. ✖ जहांगीर

Question Number : 66 Question Id : 54592730568 Question Type : MCQ Option Shuffling : Yes  
Correct Marks : 1 Wrong Marks : 0.25

Holt Mackenzie devised a new system of (i)\_\_\_ that came into effect in the year (ii)\_\_\_.

Options :

1. ✖ (i) education (ii) 1816
2. ✔ (i) revenue (ii) 1822
3. ✖ (i) education (ii) 1830
4. ✖ (i) revenue (ii) 1832

Question Number : 66 Question Id : 54592730568 Question Type : MCQ Option Shuffling : Yes  
Correct Marks : 1 Wrong Marks : 0.25

होल्ट मैकेंजी ने (i) \_\_\_ की एक नई प्रणाली तैयार की जो वर्ष (ii) \_\_\_ में लागू हुई।

Options :

1. ✖ (i) शिक्षा (ii) 1816
2. ✔ (i) राजस्व (ii) 1822
3. ✖ (i) शिक्षा (ii) 1830
4. ✖ (i) राजस्व (ii) 1832

Question Number : 67 Question Id : 54592730569 Question Type : MCQ Option Shuffling : Yes  
Correct Marks : 1 Wrong Marks : 0.25

The Vande Mataram Movement was started in protest of \_\_\_\_\_.

Options :

1. ✖ The Morley Minto Reforms of 1909

2. ✓ The Partition of Bengal of 1905

3. ✘ The hanging of Bhagat Singh in 1931

4. ✘ The killing of Lala Lajpat Rai in 1928

Question Number : 67 Question Id : 54592730569 Question Type : MCQ Option Shuffling : Yes

Correct Marks : 1 Wrong Marks : 0.25

वंदेमातरम आंदोलन \_\_\_\_\_ के विरोध में शुरू किया गया था।

Options :

1. ✘ 1909 का मॉर्ले मिंटो सुधार

2. ✓ 1905 का बंगाल विभाजन

3. ✘ 1931 में भगत सिंह की फांसी

4. ✘ 1928 में लाला लाजपत राय की हत्या

Question Number : 68 Question Id : 54592730570 Question Type : MCQ Option Shuffling : Yes

Correct Marks : 1 Wrong Marks : 0.25

Which of the following companies is not matched with its founder/co-founder?

Options :

1. ✘ Infosys – Nandan Nilekani

2. ✘ Wipro – Azim Premji

3. ✓ Ola – Nilanjan Roy

4. ✘ PayTM – Vijay Shekhar Sharma

Question Number : 68 Question Id : 54592730570 Question Type : MCQ Option Shuffling : Yes

Correct Marks : 1 Wrong Marks : 0.25

निम्नलिखित में से कौन सा संगठन अपने संस्थापक / सह-संस्थापक के साथ मेल नहीं खाता है?

Options :

1. ✘ इन्फोसिस - नंदन नीलेकणी

2. ✘ विप्रो - अजीम प्रेमजी



3. ✓ ओला - नीलांजन रॉय

4. ✘ पेट्टीएम - विजय शेखर शर्मा

Question Number : 69 Question Id : 54592730571 Question Type : MCQ Option Shuffling : Yes

Correct Marks : 1 Wrong Marks : 0.25

Prime Minister Narendra Modi was awarded the (i)\_\_\_\_\_, which is the highest civilian honour of (ii)\_\_\_\_ in April 2019.

Options :

1. ✘ (i) Grand Collar medal (ii) Saudi Arabia

2. ✓ (i) Zayed medal (ii) UAE

3. ✘ (i) Zayed medal (iii) Maldives

4. ✘ (i) Order of Abdulaziz Al Saud (ii) Palestine

Question Number : 69 Question Id : 54592730571 Question Type : MCQ Option Shuffling : Yes

Correct Marks : 1 Wrong Marks : 0.25

प्रधानमंत्री नरेंद्र मोदी को (i) \_\_\_\_ से सम्मानित किया गया, जो अप्रैल 2019 में (ii) \_\_\_\_\_ का सर्वोच्च नागरिक सम्मान है।

Options :

1. ✘ (i) ग्रेड कॉलर पदक (ii) सऊदी अरब

2. ✓ (i) जायद पदक (ii) यूएई

3. ✘ (i) जायद पदक (iii) मालदीव

4. ✘ (i) आर्डर ऑफ़ अब्दुलअज़ीज़ अल सऊद (ii) फिलिस्तीन का आदेश

Question Number : 70 Question Id : 54592730572 Question Type : MCQ Option Shuffling : Yes

Correct Marks : 1 Wrong Marks : 0.25

Who is the author of the book 'I Do What I Do'?

Options :

1. ✘ Sachin Tendulkar

2. ✘ Shashi Tharoor

3. ✓ Raghuram Rajan

## 4. \* Nandan Nilekani

Question Number : 70 Question Id : 54592730572 Question Type : MCQ Option Shuffling : Yes  
Correct Marks : 1 Wrong Marks : 0.25

पुस्तक 'आई इ व्हाट आई इ' के लेखक कौन हैं?

Options :

1. \* सचिन तेंदुलकर
2. \* शशि थरूर
3. ✓ रघुराम राजन
4. \* नंदन नीलेकणी

Question Number : 71 Question Id : 54592730573 Question Type : MCQ Option Shuffling : Yes  
Correct Marks : 1 Wrong Marks : 0.25

Which of the following books is not an autobiography?

Options :

1. \* Wings of Fire
2. \* Mein Kampf
3. \* The Race of My Life
4. ✓ Paths of Glory

Question Number : 71 Question Id : 54592730573 Question Type : MCQ Option Shuffling : Yes  
Correct Marks : 1 Wrong Marks : 0.25

निम्नलिखित में से कौन सी पुस्तक एक आत्मकथा नहीं है?

Options :

1. \* विंग्स आफ फायर
2. \* मैं काम्पफ़
3. \* द रेस आफ माय लाइफ़
4. ✓ पाथ्स आफ ग्लोरी

Question Number : 72 Question Id : 54592730574 Question Type : MCQ Option Shuffling : Yes  
Correct Marks : 1 Wrong Marks : 0.25

Which of the following organizations is India not a member of?

Options :

1. ✓ NATO
2. ✗ SCO
3. ✗ G20
4. ✗ BRICS

Question Number : 72 Question Id : 54592730574 Question Type : MCQ Option Shuffling : Yes  
Correct Marks : 1 Wrong Marks : 0.25

निम्नलिखित में से कौन से संगठन का भारत सदस्य नहीं है?

Options :

1. ✓ NATO
2. ✗ SCO
3. ✗ G20
4. ✗ BRICS

Question Number : 73 Question Id : 54592730575 Question Type : MCQ Option Shuffling : Yes  
Correct Marks : 1 Wrong Marks : 0.25

Who is the woman scientist to have won a Nobel Prize for both Chemistry and Physics?

Options :

1. ✗ Linda B. Buck
2. ✓ Madame Marie Curie
3. ✗ Aung San Suu Kyi
4. ✗ Maria Goeppert Mayer

Question Number : 73 Question Id : 54592730575 Question Type : MCQ Option Shuffling : Yes  
Correct Marks : 1 Wrong Marks : 0.25

वह महिला वैज्ञानिक कौन है जिसने रसायन और भौतिकी दोनों के लिए नोबेल पुरस्कार जीता है?

Options :

1. ✖ लिंडा बी बक
2. ✔ मैडम मैरी क्यूरी
3. ✖ आंग सान सू की
4. ✖ मारिया गोएपर्ट मेयर

Question Number : 74 Question Id : 54592730576 Question Type : MCQ Option Shuffling : Yes

Correct Marks : 1 Wrong Marks : 0.25

Which of the following Articles of the Indian Constitution provides for an independent office of the Comptroller and Auditor General (CAG) of India?

Options :

1. ✖ 145
2. ✖ 146
3. ✖ 147
4. ✔ 148

Question Number : 74 Question Id : 54592730576 Question Type : MCQ Option Shuffling : Yes

Correct Marks : 1 Wrong Marks : 0.25

भारतीय संविधान के निम्नलिखित में से कौन सा अनुच्छेद भारत के नियंत्रक और महालेखा परीक्षक (केग) के लिए एक स्वतंत्र कार्यालय प्रदान करता है?

Options :

1. ✖ 145
2. ✖ 146
3. ✖ 147
4. ✔ 148

Question Number : 75 Question Id : 54592730577 Question Type : MCQ Option Shuffling : Yes

Correct Marks : 1 Wrong Marks : 0.25

What is the maximum number of terms that a person can be elected as the President of India?

Options :

1. ✖ 2 times
2. ✖ 3 times
3. ✖ 1 time only
4. ✔ Any number of terms

Question Number : 75 Question Id : 54592730577 Question Type : MCQ Option Shuffling : Yes

Correct Marks : 1 Wrong Marks : 0.25

किसी व्यक्ति को भारत के राष्ट्रपति के रूप में अधिकतम कितनी बार चुना जा सकता है ?

Options :

1. ✖ 2 बार
2. ✖ 3 बार
3. ✖ केवल 1 बार
4. ✔ कितनी भी बार

Question Number : 76 Question Id : 54592730578 Question Type : MCQ Option Shuffling : Yes

Correct Marks : 1 Wrong Marks : 0.25

Which of the following words was not added to the Preamble of the Indian Constitution by the 42nd Constitutional Amendment Act?

Options :

1. ✖ Socialist
2. ✖ Secular
3. ✖ Integrity
4. ✔ Fraternity

Question Number : 76 Question Id : 54592730578 Question Type : MCQ Option Shuffling : Yes

Correct Marks : 1 Wrong Marks : 0.25

निम्नलिखित में से कौन सा शब्द 42वें संवैधानिक संशोधन अधिनियम द्वारा भारतीय संविधान की प्रस्तावना में नहीं जोड़ा गया था?

Options :

1. ✖ समाजवादी
2. ✖ धर्म निरपेक्ष
3. ✖ अखंडता
4. ✔ भ्रातृत्व

Question Number : 77 Question Id : 54592730579 Question Type : MCQ Option Shuffling : Yes

Correct Marks : 1 Wrong Marks : 0.25

Which of the following is not a feature of the Regulating Act of 1773?

Options :

1. ✖ It designated the Governor of Bengal as the 'Governor-General of Bengal'
2. ✖ It provided for the establishment of a Supreme Court at Calcutta
3. ✖ It required the Court of Directors to report on revenue, civil and military affairs in India to the British Government
4. ✔ It introduced a system of open competition for selection of civil servants

Question Number : 77 Question Id : 54592730579 Question Type : MCQ Option Shuffling : Yes

Correct Marks : 1 Wrong Marks : 0.25

निम्नलिखित में से कौन सी 1773 के विनियमन अधिनियम की विशेषता नहीं है?

Options :

1. ✖ इसने बंगाल के गवर्नर को 'बंगाल के गवर्नर-जनरल' के रूप में नामित किया था।

2. \* इसने कलकत्ता में सर्वोच्च न्यायालय की स्थापना के लिए प्रावधान दिया।

3. \* इसमें भारत में राजस्व, नागरिक और सैन्य मामलों पर ब्रिटिश सरकार को रिपोर्ट करने के लिए निदेशकों के राज-दरबार की आवश्यकता थी।

4. ✓ इसने राजनैतिक मुलाज़िमों के चयन के लिए खुली प्रतियोगिता की प्रणाली पेश की।

Question Number : 78 Question Id : 54592730580 Question Type : MCQ Option Shuffling : Yes

Correct Marks : 1 Wrong Marks : 0.25

Which of the following Indian sportsperson is also known as the Dhing Express?

Options :

1. ✓ Hima Das

2. \* Dutee Chand

3. \* Muhammad Anas

4. \* Neeraj Chopra

Question Number : 78 Question Id : 54592730580 Question Type : MCQ Option Shuffling : Yes

Correct Marks : 1 Wrong Marks : 0.25

निम्नलिखित में से किस भारतीय खिलाड़ी को डींग एक्सप्रेस के नाम से भी जाना जाता है?

Options :

1. ✓ हिमा दास

2. \* दुती चंद

3. \* मुहम्मद अनस

4. \* नीरज चोपड़ा

Question Number : 79 Question Id : 54592730581 Question Type : MCQ Option Shuffling : Yes

Correct Marks : 1 Wrong Marks : 0.25

(i)\_\_\_\_\_ has won the Copa America 2019, by defeating (ii)\_\_\_\_\_.

Options :

1. \* (i) Brazil (ii) Argentina
2. \* (i) Peru (ii) Chile
3. ✓ (i) Brazil (ii) Peru
4. \* (i) Argentina (ii) Chile

Question Number : 79 Question Id : 54592730581 Question Type : MCQ Option Shuffling : Yes

Correct Marks : 1 Wrong Marks : 0.25

(i) \_\_\_\_\_ ने (ii) \_\_\_\_\_ को हराकर कोपा अमेरिका 2019 जीता है

|

Options :

1. \* (i) ब्राज़ील (ii) अर्जेंटीना
2. \* (i) पेरू (ii) चिली
3. ✓ (i) ब्राज़ील (ii) पेरू
4. \* (i) अर्जेंटीना (ii) चिली

Question Number : 80 Question Id : 54592730582 Question Type : MCQ Option Shuffling : Yes

Correct Marks : 1 Wrong Marks : 0.25

In tennis, how many tournaments come under Grand Slam?

Options :

1. \* 2
2. \* 3
3. ✓ 4
4. \* 5

Question Number : 80 Question Id : 54592730582 Question Type : MCQ Option Shuffling : Yes

Correct Marks : 1 Wrong Marks : 0.25

टेनिस में, ग्रैंड स्लैम के तहत कितने टूर्नामेंट आते हैं?

Options :

1. \* 2



2. ✖ 3

3. ✔ 4

4. ✖ 5

## Arithmetic Ability1

|   |            |
|---|------------|
| Group Number :                            | 5          |
| Group Id :                                | 5459271515 |
| Group Maximum Duration :                  | 0          |
| Group Minimum Duration :                  | 0          |
| Show Attended Group? :                    | No         |
| Edit Attended Group? :                    | No         |
| Break time:                               | 0          |
| Group Marks:                              | 20         |
| Is this Group for Examiner?:              | No         |
| Revisit allowed for group Instructions? : | Yes        |
| Maximum Instruction Time:                 | 0          |
| Minimum Instruction Time:                 | 0          |

## Arithmetic Ability1

|                                      |            |
|--------------------------------------|------------|
| Section Id :                         | 5459271515 |
| Section Number :                     | 1          |
| Section type :                       | Online     |
| Mandatory or Optional:               | Mandatory  |
| Number of Questions:                 | 20         |
| Number of Questions to be attempted: | 20         |
| Section Marks:                       | 20         |

|                              |            |
|------------------------------|------------|
| Sub-Section Number:          | 1          |
| Sub-Section Id:              | 5459271817 |
| Question Shuffling Allowed : | Yes        |

Question Number : 81 Question Id : 54592730583 Question Type : MCQ Option Shuffling : Yes  
Correct Marks : 1 Wrong Marks : 0.25

What should come in place of the question mark (?) in the following question?

2.03 percent of 1400 + 4.2 percent of 450 = ?

Options :

1. ✖ 18.09

2. ✖ 10.33

3. ✖ 24.42

4. ✔ 47.32

Question Number : 81 Question Id : 54592730583 Question Type : MCQ Option Shuffling : Yes  
Correct Marks : 1 Wrong Marks : 0.25

निम्नलिखित प्रश्न में प्रश्नवाचक चिन्ह (?) के स्थान पर क्या आना चाहिए?

1400 का 2.03 प्रतिशत + 450 का 4.2 प्रतिशत = ?

Options :

1. ✖ 18.09

2. ✖ 10.33

3. ✖ 24.42

4. ✔ 47.32

Question Number : 82 Question Id : 54592730584 Question Type : MCQ Option Shuffling : Yes  
Correct Marks : 1 Wrong Marks : 0.25

What should come in place of the question mark (?) in the following question?

40 percent of 680 + 35 percent of 500 – 10 percent of 100 × 5 percent of 500 = ?

Options :

1. ✔ 197

2. ✖ 195

3. ✖ 199

4. ✖ 192

Question Number : 82 Question Id : 54592730584 Question Type : MCQ Option Shuffling : Yes

Correct Marks : 1 Wrong Marks : 0.25

निम्नलिखित प्रश्न में प्रश्नवाचक चिन्ह (?) के स्थान पर क्या आना चाहिए?

680 का 40 प्रतिशत + 500 का 35 प्रतिशत - 100 का 10 प्रतिशत  
× 500 का 5 प्रतिशत = ?

Options :

1. ✓ 197

2. ✗ 195

3. ✗ 199

4. ✗ 192

Question Number : 83 Question Id : 54592730585 Question Type : MCQ Option Shuffling : Yes

Correct Marks : 1 Wrong Marks : 0.25

What should come in place of the question mark (?) in the following question?

$$\frac{2}{3} \text{ of } \frac{3}{5} \text{ of } \frac{4}{5} \text{ of ?} = 1112$$

Options :

1. ✗ 3575

2. ✓ 3475

3. ✗ 3425

4. ✗ 3215

Question Number : 83 Question Id : 54592730585 Question Type : MCQ Option Shuffling : Yes

Correct Marks : 1 Wrong Marks : 0.25

निम्नलिखित प्रश्न में प्रश्नवाचक चिन्ह (?) के स्थान पर क्या आना चाहिए?

$$? \text{ का } \frac{4}{5} \text{ का } \frac{3}{5} \text{ का } \frac{2}{3} = 1112$$

Options :

1. ✖ 3575
2. ✔ 3475
3. ✖ 3425
4. ✖ 3215

Question Number : 84 Question Id : 54592730586 Question Type : MCQ Option Shuffling : Yes

Correct Marks : 1 Wrong Marks : 0.25

What should come in place of the question mark (?) in the following question?

$$\frac{300}{10} \times \frac{200}{10} \times \frac{100}{10} \times \frac{50}{10} = ?$$

Options :

1. ✖ 40000
2. ✔ 30000
3. ✖ 35000
4. ✖ 50000

Question Number : 84 Question Id : 54592730586 Question Type : MCQ Option Shuffling : Yes

Correct Marks : 1 Wrong Marks : 0.25

निम्नलिखित प्रश्न में प्रश्नवाचक चिन्ह (?) के स्थान पर क्या आना चाहिए?

$$\frac{300}{10} \times \frac{200}{10} \times \frac{100}{10} \times \frac{50}{10} = ?$$

Options :

1. ✖ 40000

2. ✔ 30000

3. ✖ 35000

4. ✖ 50000

Question Number : 85 Question Id : 54592730587 Question Type : MCQ Option Shuffling : Yes

Correct Marks : 1 Wrong Marks : 0.25

What should come in place of the question mark (?) in the following question?

$$? \times 7 \text{ of } 9 \div 32 = \frac{24+480}{16+240}$$

Options :

1. ✖  $1 \frac{32}{33}$

2. ✖  $3 \frac{15}{16}$

3. ✔ 1

4. ✖ 2

Question Number : 85 Question Id : 54592730587 Question Type : MCQ Option Shuffling : Yes

Correct Marks : 1 Wrong Marks : 0.25

निम्नलिखित प्रश्न में प्रश्नवाचक चिन्ह (?) के स्थान पर क्या आना चाहिए?

$$\frac{24+6 \times 80}{16+4 \times 60} = ? \times 7 \text{ का } 9 \div 32$$

Options :

1. ✖  $1 \frac{32}{33}$

2. ✖  $3\frac{15}{16}$

3. ✔ 1

4. ✖ 2

Question Number : 86 Question Id : 54592730588 Question Type : MCQ Option Shuffling : Yes  
Correct Marks : 1 Wrong Marks : 0.25

What should come in place of the question mark (?) in the following question?

$$? = (600 + 660) \div (500 - 80)$$

Options :

1. ✖ 4

2. ✔ 3

3. ✖ 7

4. ✖ 5

Question Number : 86 Question Id : 54592730588 Question Type : MCQ Option Shuffling : Yes  
Correct Marks : 1 Wrong Marks : 0.25

निम्नलिखित प्रश्न में प्रश्नवाचक चिन्ह (?) के स्थान पर क्या आना चाहिए?

$$? = (600 + 660) \div (500 - 80)$$

Options :

1. ✖ 4

2. ✔ 3

3. ✖ 7

4. ✖ 5

Question Number : 87 Question Id : 54592730589 Question Type : MCQ Option Shuffling : Yes

Correct Marks : 1 Wrong Marks : 0.25

Product of two co-prime numbers is 667. What will be the L.C.M. of these numbers.

Options :

1. ✖ 1
2. ✔ 667
3. ✖ 625
4. ✖ equal to their H.C.F.

Question Number : 87 Question Id : 54592730589 Question Type : MCQ Option Shuffling : Yes

Correct Marks : 1 Wrong Marks : 0.25

दो सह-अभाज्य संख्याओं का गुणनफल 667 है। इन संख्याओं का लघुतम समापवर्तक क्या होगा।

Options :

1. ✖ 1
2. ✔ 667
3. ✖ 625
4. ✖ उनके म.स. के बराबर

Question Number : 88 Question Id : 54592730590 Question Type : MCQ Option Shuffling : Yes

Correct Marks : 1 Wrong Marks : 0.25

The L.C.M. of three different numbers is 400. Which of the following number cannot be their H.C.F.?

Options :

1. ✖ 16
2. ✖ 20
3. ✖ 25
4. ✔ 45

Question Number : 88 Question Id : 54592730590 Question Type : MCQ Option Shuffling : Yes

Correct Marks : 1 Wrong Marks : 0.25

तीन भिन्न संख्याओं का लघुतम समापवर्तक 400 है। निम्न में से कौन-सी संख्या उनका महत्तम समापवर्तक नहीं हो सकती।

Options :

1. ✖ 16

2. ✖ 20

3. ✖ 25

4. ✔ 45

Question Number : 89 Question Id : 54592730591 Question Type : MCQ Option Shuffling : Yes

Correct Marks : 1 Wrong Marks : 0.25

Which of the following numbers is divisible by both 12 and 18?

Options :

1. ✔ 7524

2. ✖ 3654

3. ✖ 3027

4. ✖ 5136

Question Number : 89 Question Id : 54592730591 Question Type : MCQ Option Shuffling : Yes

Correct Marks : 1 Wrong Marks : 0.25

निम्नलिखित में से कौन सी संख्या 12 और 18 दोनों से विभाजित है?

Options :

1. ✔ 7524

2. ✖ 3654

3. ✖ 3027

4. ✖ 5136

Question Number : 90 Question Id : 54592730592 Question Type : MCQ Option Shuffling : Yes

Correct Marks : 1 Wrong Marks : 0.25



Find the least natural number to be added to the 42361 to make it multiple of 11.

Options :

- 1. ✖ 2
- 2. ✖ 3
- 3. ✖ 4
- 4. ✔ 11

Question Number : 90 Question Id : 54592730592 Question Type : MCQ Option Shuffling : Yes

Correct Marks : 1 Wrong Marks : 0.25

वह छोटी से छोटी संख्या ज्ञात कीजिये जिसे 42361 में जोड़ने पर परिणाम 11 का गुणक हो।

Options :

- 1. ✖ 2
- 2. ✖ 3
- 3. ✖ 4
- 4. ✔ 11

Question Number : 91 Question Id : 54592730593 Question Type : MCQ Option Shuffling : Yes

Correct Marks : 1 Wrong Marks : 0.25

The sale of two-wheeler on a showroom during first week of a month was 780. In the second week it was 25 percent higher than the first week. In the third week it decreased by 20 percent and in the fourth week it increased by 50 percent. Find the average sale of two-wheeler during the four weeks.

Options :

- 1. ✖ 840.5
- 2. ✔ 926.25
- 3. ✖ 880.7
- 4. ✖ 1002.5

Question Number : 91 Question Id : 54592730593 Question Type : MCQ Option Shuffling : Yes

Correct Marks : 1 Wrong Marks : 0.25

एक महीने के पहले सप्ताह में एक शोरूम पर दोपहिया वाहनों की बिक्री 780 थी। दूसरे सप्ताह में यह पहले सप्ताह की तुलना में 25 प्रतिशत अधिक था। तीसरे सप्ताह में इसमें 20 प्रतिशत की कमी आई और चौथे सप्ताह में इसमें 50 प्रतिशत की वृद्धि हुई। चार सप्ताह के दौरान दोपहिया वाहन की औसत बिक्री ज्ञात कीजिए।

Options :

1. ✖ 840.5
2. ✔ 926.25
3. ✖ 880.7
4. ✖ 1002.5

Question Number : 92 Question Id : 54592730594 Question Type : MCQ Option Shuffling : Yes

Correct Marks : 1 Wrong Marks : 0.25

The average weight of a class of 25 students is 35 kg. If a teacher whose weight is  $W$  kg is included, the average is goes up by 1 kg. If another teacher whose weight is  $Z$  kg is also included, the average weight of the class further increases by 2 kg. Find the value of  $WZ$ .

Options :

1. ✖ 5560
2. ✖ 5180
3. ✖ 5240
4. ✔ 5490

Question Number : 92 Question Id : 54592730594 Question Type : MCQ Option Shuffling : Yes

Correct Marks : 1 Wrong Marks : 0.25

25 छात्रों की एक कक्षा का औसत वजन 35 किलोग्राम है। यदि एक शिक्षक जिसका वजन  $W$  किलो है शामिल है, तो औसत 1 किलोग्राम बढ़ जाता है। यदि एक और शिक्षक जिसका वजन  $Z$  किलो है, भी शामिल है, तो कक्षा का औसत वजन और 2 किलो बढ़ जाता है।  $WZ$  का मान ज्ञात कीजिए।

Options :

1. ✖ 5560
2. ✖ 5180
3. ✖ 5240
4. ✔ 5490

Question Number : 93 Question Id : 54592730595 Question Type : MCQ Option Shuffling : Yes  
Correct Marks : 1 Wrong Marks : 0.25

A shopkeeper gives three successive discounts of 10 percent, 15 percent and 25 percent to his customer on marked price of a product. To his another customer he gives 10 percent, 20 percent and 20 percent discounts on the same product. If the difference between the purchasing prices of two customers is Rs.540, then what is the marked price of the product?

Options :

1. ✖ Rs.215000
2. ✖ Rs.228000
3. ✔ Rs.240000
4. ✖ Rs.232000

Question Number : 93 Question Id : 54592730595 Question Type : MCQ Option Shuffling : Yes  
Correct Marks : 1 Wrong Marks : 0.25

एक दुकानदार अपने उत्पाद के अंकित कीमत पर अपने ग्राहक को 10 प्रतिशत, 15 प्रतिशत और 25 प्रतिशत की क्रमागत छूट देता है। अपने दूसरे ग्राहक को वह उसी उत्पाद पर 10 प्रतिशत, 20 प्रतिशत और 20 प्रतिशत की छूट देता है। यदि दोनों ग्राहकों के क्रय मूल्य के बीच का अंतर 540 रु. है, तो उत्पाद का अंकित मूल्य कितना है?

Options :

1. ✖ ₹.215000

2. ✖ ₹.228000

3. ✔ ₹.240000

4. ✖ ₹.232000

Question Number : 94 Question Id : 54592730596 Question Type : MCQ Option Shuffling : Yes

Correct Marks : 1 Wrong Marks : 0.25

The price of petrol is 40 percent more than price of diesel and price of diesel is twice the price of kerosene. If the price of petrol is increases by 12 percent, price of diesel is increases by 15 percent and price of kerosene is decreases by  $m$  percent, the overall increase is of 8 percent. Find the value of  $m$ .

Options :

1. ✖ 15.1

2. ✖ 16.4

3. ✔ 17.2

4. ✖ 18

Question Number : 94 Question Id : 54592730596 Question Type : MCQ Option Shuffling : Yes

Correct Marks : 1 Wrong Marks : 0.25

पेट्रोल की कीमत डीजल की कीमत से 40 प्रतिशत अधिक है और डीजल की कीमत मिट्टी के तेल की कीमत से दोगुना है। यदि पेट्रोल की कीमत में 12 प्रतिशत की वृद्धि होती है, डीजल की कीमत में 15 प्रतिशत की वृद्धि होती है और मिट्टी के तेल की कीमत  $m$  प्रतिशत से घट जाती है तो कुल मिलाकर 8 प्रतिशत की वृद्धि होती है।  $m$  का मान ज्ञात कीजिए।

Options :

1. ✖ 15.1
2. ✖ 16.4
3. ✔ 17.2
4. ✖ 18

Question Number : 95 Question Id : 54592730597 Question Type : MCQ Option Shuffling : Yes

Correct Marks : 1 Wrong Marks : 0.25

The value of a house increased by the same percentage over the last five years. If at beginning it was Rs.6.86 lakhs and in the end it became Rs.20.48 lakhs, then find the percentage increase every year.

Options :

1. ✖ 50 percent
2. ✔  $33\frac{1}{3}$  percent
3. ✖ 40 percent
4. ✖  $36\frac{1}{5}$  percent

Question Number : 95 Question Id : 54592730597 Question Type : MCQ Option Shuffling : Yes

Correct Marks : 1 Wrong Marks : 0.25

पिछले पांच वर्षों में एक घर के मूल्य में समान प्रतिशत की वृद्धि हुई। यदि शुरुआत में यह 6.86 लाख रुपये का था और अंत में यह 20.48 लाख रुपये का हो गया, तो हर साल प्रतिशत वृद्धि कितनी हैं?

Options :

1. ✖ 50 प्रतिशत

2. ✔  $33\frac{1}{3}$  प्रतिशत

3. ✖ 40 प्रतिशत

4. ✖  $36\frac{1}{5}$  प्रतिशत

Question Number : 96 Question Id : 54592730598 Question Type : MCQ Option Shuffling : Yes

Correct Marks : 1 Wrong Marks : 0.25

A person spends his part of income is such that, his expenditure is 25 percent of the income what it remained after his expenditure. If income increased by 30 percent and saving by 10 percent, then find the percentage point change in his expenditure.

Options :

1. ✖ 10

2. ✔ 12.3

3. ✖ 11.6

4. ✖ 10.4

Question Number : 96 Question Id : 54592730598 Question Type : MCQ Option Shuffling : Yes

Correct Marks : 1 Wrong Marks : 0.25

एक व्यक्ति अपनी आय का कुछ हिस्सा इस तरह खर्च करता है, कि उसके खर्च के बाद बचे हुए आय का 25 प्रतिशत है। यदि आय में 30 प्रतिशत की वृद्धि हुई और बचत में 10 प्रतिशत की वृद्धि हुई, तो उसके व्यय में प्रतिशत बिंदु परिवर्तन ज्ञात कीजिए।

Options :

1. ✖ 10
2. ✔ 12.3
3. ✖ 11.6
4. ✖ 10.4

Question Number : 97 Question Id : 54592730599 Question Type : MCQ Option Shuffling : Yes

Correct Marks : 1 Wrong Marks : 0.25

A shopkeeper marked a toy at Rs.600. He sold it after allowing a discount and still made a profit of 22 percent. At what profit percentage above its cost price did he mark the toy, if he sold it for Rs.468.48?

Options :

1. ✔ 56.25 percent
2. ✖ 54.5 percent
3. ✖ 58.4 percent
4. ✖ 62 percent

Question Number : 97 Question Id : 54592730599 Question Type : MCQ Option Shuffling : Yes

Correct Marks : 1 Wrong Marks : 0.25

एक दुकानदार ने रु.600 में एक खिलौना अंकित किया। उसने कुछ छूट के बाद इसे बेच दिया और 22 प्रतिशत का लाभ कमाया। उसने लागत मूल्य से कितने ऊपर प्रतिशत पर खिलौने को अंकित किया, यदि उसने इसे रु.468.48 में बेचा?

Options :

1. ✓ 56.25 प्रतिशत

2. ✗ 54.5 प्रतिशत

3. ✗ 58.4 प्रतिशत

4. ✗ 62 प्रतिशत

Question Number : 98 Question Id : 54592730600 Question Type : MCQ Option Shuffling : Yes  
Correct Marks : 1 Wrong Marks : 0.25

Akhil bought a product at a discount of 15% on its marked price and sold it to Bansi at a profit of 12.5%. Bansi sold the product to Chandan for Rs.16065 and made a loss of  $22\frac{2}{9}\%$ . What is the marked price of the product?

Options :

1. ✓ Rs.21600

2. ✗ Rs.20000

3. ✗ Rs.22500

4. ✗ Rs.25000

Question Number : 98 Question Id : 54592730600 Question Type : MCQ Option Shuffling : Yes  
Correct Marks : 1 Wrong Marks : 0.25

अखिल ने चिह्नित मूल्य पर 15% की छूट पर एक उत्पाद खरीदा और 12.5% के लाभ पर बंसी को बेच दिया। बंसी ने चंदन को रु.16065 में  $22\frac{2}{9}\%$  के नुकसान पर बेच दिया। उत्पाद का चिह्नित मूल्य क्या है?

Options :

1. ✓ ₹.21600

2. ✗ ₹.20000

3. ✗ ₹.22500

4. ✗ ₹.25000

Question Number : 99 Question Id : 54592730601 Question Type : MCQ Option Shuffling : Yes  
Correct Marks : 1 Wrong Marks : 0.25



A bag is marked at 70 percent above its cost price and sold at d percent discount. The shopkeeper thus gains 10.5 percent. What would be the selling price of a product with a cost price of Rs.2250 and d percent profit?

Options :

1. ✖ Rs.2800
2. ✖ Rs.2900
3. ✖ Rs.3208.5
4. ✔ Rs.3037.5

Question Number : 99 Question Id : 54592730601 Question Type : MCQ Option Shuffling : Yes

Correct Marks : 1 Wrong Marks : 0.25

एक बैग अपनी लागत मूल्य से 70 प्रतिशत ऊपर अंकित किया गया है और d प्रतिशत छूट पर बेचा गया है। इस प्रकार दुकानदार को 10.5 प्रतिशत लाभ होता है। रु.2250 लागत मूल्य और d प्रतिशत लाभ के साथ उत्पाद का बिक्री मूल्य क्या होगा?

Options :

1. ✖ ₹.2800
2. ✖ ₹.2900
3. ✖ ₹.3208.5
4. ✔ ₹.3037.5

Question Number : 100 Question Id : 54592730602 Question Type : MCQ Option Shuffling : Yes

Correct Marks : 1 Wrong Marks : 0.25

From 2017 to 2018, the revenue of a company increased in the ratio 2 : 3, whereas its expenditure increased in the ratio 11 : 18. If in both the years, the profit of company was same, then what was the ratio of revenue to expenditure of company in 2018.

Options :

1. ✓ 7 : 6

2. ✗ 5 : 4

3. ✗ 10 : 9

4. ✗ 8 : 5

Question Number : 100 Question Id : 54592730602 Question Type : MCQ Option Shuffling : Yes  
Correct Marks : 1 Wrong Marks : 0.25

2017 से 2018 तक, किसी कंपनी का राजस्व 2: 3 के अनुपात में बढ़ गया, जबकि उसका व्यय 11: 18 के अनुपात में बढ़ गया। यदि दोनों वर्षों में, कंपनी का लाभ समान था, तो 2018 में कंपनी का राजस्व का कंपनी के खर्च से अनुपात क्या था?

Options :

1. ✓ 7 : 6

2. ✗ 5 : 4

3. ✗ 10 : 9

4. ✗ 8 : 5

## Arithmetic Ability2

|   |            |
|---|------------|
| Group Number :                            | 6          |
| Group Id :                                | 5459271516 |
| Group Maximum Duration :                  | 0          |
| Group Minimum Duration :                  | 0          |
| Show Attended Group? :                    | No         |
| Edit Attended Group? :                    | No         |
| Break time:                               | 0          |
| Group Marks:                              | 20         |
| Is this Group for Examiner?:              | No         |
| Revisit allowed for group Instructions? : | Yes        |
| Maximum Instruction Time:                 | 0          |
| Minimum Instruction Time:                 | 0          |

## Arithmetic Ability2

Section Id :

5459271516

|                                      |           |
|--------------------------------------|-----------|
| Section Number :                     | 1         |
| Section type :                       | Online    |
| Mandatory or Optional:               | Mandatory |
| Number of Questions:                 | 20        |
| Number of Questions to be attempted: | 20        |
| Section Marks:                       | 20        |

|                              |            |
|------------------------------|------------|
| Sub-Section Number:          | 1          |
| Sub-Section Id:              | 5459271818 |
| Question Shuffling Allowed : | Yes        |

Question Number : 101 Question Id : 54592730603 Question Type : MCQ Option Shuffling : Yes  
Correct Marks : 1 Wrong Marks : 0.25

A total of 240 persons were there in a marriage party with the number of males to the numbers of females in the ratio 5 : 3. Later, equal number of males and females joined the party and now the ratio of number of females to the numbers of males in the ratio 23 : 35. How many persons joined the party, later?

Options :

1. ✖ 40
2. ✖ 20
3. ✖ 25
4. ✔ 50

Question Number : 101 Question Id : 54592730603 Question Type : MCQ Option Shuffling : Yes  
Correct Marks : 1 Wrong Marks : 0.25

एक विवाह पार्टी में कुल 240 व्यक्ति थे जिनमें पुरुषों की संख्या का महिलाओं की संख्या से अनुपात 5 : 3 था । बाद में, पुरुषों और महिलाओं की समान संख्या पार्टी में शामिल हो गई और अब महिलाओं की संख्या का पुरुषों की संख्या से अनुपात में 23: 35 है। बाद में कुल कितने व्यक्ति पार्टी में शामिल हुए?

Options :

1. ✖ 40

2. ✖ 20

3. ✖ 25

4. ✔ 50

Question Number : 102 Question Id : 54592730604 Question Type : MCQ Option Shuffling : Yes  
Correct Marks : 1 Wrong Marks : 0.25

The age of three persons are in continue proportion. The oldest person is 50 years older than youngest person and youngest person is 20 years younger than the second oldest person. Find the sum of the ages of all the three persons.

Options :

1. ✔ 190 years

2. ✖ 160 years

3. ✖ 210 years

4. ✖ 225 years

Question Number : 102 Question Id : 54592730604 Question Type : MCQ Option Shuffling : Yes  
Correct Marks : 1 Wrong Marks : 0.25

तीन व्यक्तियों की आयु निरंतर अनुपात में है। सबसे बूढ़ा व्यक्ति सबसे कम उम्र के व्यक्ति से 50 साल बड़ा है और सबसे कम उम्र का व्यक्ति दूसरे सबसे बुजुर्ग व्यक्ति से 20 साल छोटा है। तीनों व्यक्तियों की आयु का योग ज्ञात कीजिए।

Options :

1. ✔ 190 वर्ष

2. ✖ 160 वर्ष

3. ✖ 210 वर्ष

4. ✖ 225 वर्ष

Question Number : 103 Question Id : 54592730605 Question Type : MCQ Option Shuffling : Yes  
Correct Marks : 1 Wrong Marks : 0.25

Veer borrowed Rs.60000 at the rate of 20 percent per annum compound interest, interest being compounded annually. How much amount should he have repaid at the end of the first year if he repaid double the amount at the end of the second year to clear his loan?

Options :

1. \* Rs.25500
2. \* Rs.28000
3. ✓ Rs.27000
4. \* Rs.26500

Question Number : 103 Question Id : 54592730605 Question Type : MCQ Option Shuffling : Yes

Correct Marks : 1 Wrong Marks : 0.25

वीर ने प्रतिवर्ष चक्रवृद्धि ब्याज, वार्षिक गणना पर 20 प्रतिशत की दर से रु.60000 का उधार लिया। पहले साल के अंत में उसे कितनी राशि चुकानी चाहिए थी अगर उसने अपना ऋण चुकाने के लिए दूसरे वर्ष के अंत में दोगुनी राशि दी?

Options :

1. \* रु.25500
2. \* रु.28000
3. ✓ रु.27000
4. \* रु.26500

Question Number : 104 Question Id : 54592730606 Question Type : MCQ Option Shuffling : Yes

Correct Marks : 1 Wrong Marks : 0.25

A certain sum amounts to Rs.11520 at the end of two years and Rs.15300 at the end of five years at a certain rate of simple interest. If two-third of the sum invested at half of the rate of simple interest, then what it becomes after three years.

Options :

1. ✓ Rs.7260

2. ✘ Rs.7500

3. ✘ Rs.7340

4. ✘ Rs.7410

Question Number : 104 Question Id : 54592730606 Question Type : MCQ Option Shuffling : Yes

Correct Marks : 1 Wrong Marks : 0.25

एक निश्चित राशि साधारण ब्याज की एक निश्चित दर पर, दो साल के अंत में रु.11520 और पाँच साल के अंत में रु.15300 हो जाती है। यदि राशि का दो-तिहाई साधारण ब्याज की दर से आधे पर निवेश किया जाता है, तो यह तीन साल के बाद कितना हो जाएगा ?

Options :

1. ✓ रु.7260

2. ✘ रु.7500

3. ✘ रु.7340

4. ✘ रु.7410

Question Number : 105 Question Id : 54592730607 Question Type : MCQ Option Shuffling : Yes

Correct Marks : 1 Wrong Marks : 0.25

A sum of Rs.15000 when invested at compound interest compounded half yearly, becomes Rs.17865.24 in one and half year. What it becomes after given period if invested at same rate of simple interest?

Options :

1. ✘ Rs.16400

2. ✘ Rs.15200

3. ✘ Rs.14100

4. ✓ Rs.17700

Question Number : 105 Question Id : 54592730607 Question Type : MCQ Option Shuffling : Yes

Correct Marks : 1 Wrong Marks : 0.25

अर्धवार्षिक गणना पर चक्रवृद्धि ब्याज में निवेश करने पर ₹.15000 की राशि, डेढ़ वर्ष में ₹.17865.24 हो जाती है। यदि समान ब्याज की दर से निवेश किया जाता तो यह दी गई अवधि के बाद कितना हो जाता ?

Options :

1. ✖ ₹.16400

2. ✖ ₹.15200

3. ✖ ₹.14100

4. ✔ ₹.17700

Question Number : 106 Question Id : 54592730608 Question Type : MCQ Option Shuffling : Yes

Correct Marks : 1 Wrong Marks : 0.25

A 100 meter length train is running at a speed of 60 km/hr. How many seconds does it take to cross another train of 150 meter length standing on parallel track?

Options :

1. ✖ 12.5

2. ✔ 15

3. ✖ 18

4. ✖ 16

Question Number : 106 Question Id : 54592730608 Question Type : MCQ Option Shuffling : Yes

Correct Marks : 1 Wrong Marks : 0.25

100 मी. लंबी ट्रेन 60 किमी / घंटे की गति से चल रही है। इसके समान्तर पथ पर खड़ी 150 मी. लंबी एक दूसरी ट्रेन को पार करने में कितना सेकंड लगेगा?

Options :

1. ✖ 12.5

2. ✔ 15

3. ✖ 18

4. ✖ 16

Question Number : 107 Question Id : 54592730609 Question Type : MCQ Option Shuffling : Yes  
Correct Marks : 1 Wrong Marks : 0.25

Atul leaves Lucknow at 4 pm and reaches Allahabad at 8 pm.  
Akhil leaves Allahabad at 6 pm and reaches Lucknow at 12 am. At what time do they cross each other?

Options :

1. ✖ 7:15PM

2. ✔ 7:12PM

3. ✖ 7:10PM

4. ✖ 7:08PM

Question Number : 107 Question Id : 54592730609 Question Type : MCQ Option Shuffling : Yes  
Correct Marks : 1 Wrong Marks : 0.25

अतुल अपराह्न 4 बजे लखनऊ से निकला और अपराह्न 8 बजे  
इलाहाबाद पहुंचा। अखिल अपराह्न 6 बजे इलाहाबाद से निकला और  
पूर्वाह्न 12 बजे लखनऊ पहुंचा। किस समय पर वे दोनों एक-दूसरे को  
पार करते हैं?

Options :

1. ✖ 7:15PM

2. ✔ 7:12PM

3. ✖ 7:10PM

4. ✖ 7:08PM

Question Number : 108 Question Id : 54592730610 Question Type : MCQ Option Shuffling : Yes  
Correct Marks : 1 Wrong Marks : 0.25



In a 500 m race, A beats B by 40 m. In a 1000 m race, B beats C by 40 m. If A beats C by 14.6 seconds in a 500 m race, find the time taken (in minutes) by B to run 2.4 km ?

Options :

1. ✖ 8

2. ✔ 9.6

3. ✖ 12

4. ✖ 16

Question Number : 108 Question Id : 54592730610 Question Type : MCQ Option Shuffling : Yes

Correct Marks : 1 Wrong Marks : 0.25

500 मीटर की दौड़ में A, B से 40 मीटर से हरा देता है। एक 1000 मीटर की दौड़ में, B 40 मीटर से C को हरा देता है। यदि A 500 मीटर की दौड़ में 14.6 सेकंड से C को हराता है, तो 2.4 किमी चलने के लिए B द्वारा लिया गया समय (मिनट में) ज्ञात करें?

Options :

1. ✖ 8

2. ✔ 9.6

3. ✖ 12

4. ✖ 16

Question Number : 109 Question Id : 54592730611 Question Type : MCQ Option Shuffling : Yes

Correct Marks : 1 Wrong Marks : 0.25

A's rate of work is 40 percent more than that of B. If they together complete a piece of work, then what fraction of the work is done by A?

Options :

1. ✖  $\frac{5}{12}$

2. ✔  $\frac{7}{12}$

3. ✖ 5/7

4. ✖ 7/5

Question Number : 109 Question Id : 54592730611 Question Type : MCQ Option Shuffling : Yes

Correct Marks : 1 Wrong Marks : 0.25

A के काम करने की दर B की तुलना में 40 प्रतिशत अधिक है। यदि वे एक साथ काम पूरा करते हैं, तो A द्वारा किये गए कार्य का अंश क्या है?

Options :

1. ✖ 5/12

2. ✔ 7/12

3. ✖ 5/7

4. ✖ 7/5

Question Number : 110 Question Id : 54592730612 Question Type : MCQ Option Shuffling : Yes

Correct Marks : 1 Wrong Marks : 0.25

A man builds  $\frac{1}{8}$ th part of a wall every day. Out of the length of the wall built per day, 20 percent falls off at the end of the day till the wall is completely built. In how many days can he complete the construction of the wall?

Options :

1. ✖ 8

2. ✖ 10

3. ✖  $9\frac{1}{5}$

4. ✔  $9\frac{4}{5}$

Question Number : 110 Question Id : 54592730612 Question Type : MCQ Option Shuffling : Yes

Correct Marks : 1 Wrong Marks : 0.25

एक व्यक्ति हर दिन एक दीवार का  $\frac{1}{8}$  वाँ हिस्सा बनाता है। प्रति दिन निर्मित दीवार की लंबाई में से, 20 प्रतिशत दिन के अंत में गिर जाती है जब तक कि दीवार पूरी तरह से नहीं बन जाती। वह दीवार के निर्माण को कितने दिनों में पूरा कर सकता है?

Options :

1. ✖ 8

2. ✖ 10

3. ✖  $9\frac{1}{5}$

4. ✔  $9\frac{4}{5}$

Question Number : 111 Question Id : 54592730613 Question Type : MCQ Option Shuffling : Yes

Correct Marks : 1 Wrong Marks : 0.25

X and Y together can complete a piece of work in 6 days. If X alone can complete the same work in 15 days, in how many days can Y alone complete that work?

Options :

1. ✖ 9 days

2. ✖ 5 days

3. ✔ 10 days

4. ✖ 12 days

Question Number : 111 Question Id : 54592730613 Question Type : MCQ Option Shuffling : Yes

Correct Marks : 1 Wrong Marks : 0.25

X और Y मिलकर काम के एक हिस्से को 6 दिन में पूरा करते हैं। यदि X अकेला उस काम को 15 दिनों में पूरा कर सकता है, तो Y उस काम को कितने दिनों में पूरा कर सकता है?

Options :

1. ✖ 9 दिन
2. ✖ 5 दिन
3. ✔ 10 दिन
4. ✖ 12 दिन

Question Number : 112 Question Id : 54592730614 Question Type : MCQ Option Shuffling : Yes

Correct Marks : 1 Wrong Marks : 0.25

The largest and the second largest angle of a triangle are in the ratio of 11:9. The smallest angle is 12.5 percent of the sum of the largest and the second largest angle. What is the sum of the smallest and the second largest angle?

Options :

1. ✖  $84^\circ$
2. ✖  $108^\circ$
3. ✖  $88^\circ$
4. ✔  $92^\circ$

Question Number : 112 Question Id : 54592730614 Question Type : MCQ Option Shuffling : Yes

Correct Marks : 1 Wrong Marks : 0.25

एक त्रिभुज के सबसे बड़े कोण और दूसरे सबसे बड़े कोण का अनुपात क्रमशः 11:9 है। सबसे छोटा कोण, सबसे बड़े कोण और दूसरे सबसे बड़े कोण के योग का 12.5 प्रतिशत है। सबसे छोटे कोण और दूसरे सबसे बड़े कोण का योग कितना है?

Options :

1. ✖  $84^\circ$
2. ✖  $108^\circ$
3. ✖  $88^\circ$
4. ✔  $92^\circ$

Question Number : 113 Question Id : 54592730615 Question Type : MCQ Option Shuffling : Yes

Correct Marks : 1 Wrong Marks : 0.25

Two concentric circles with radii  $a$  cm. and  $(a + 2)$  cm. are drawn on a paper. The difference between their areas is 88 sq cm. Find the value of  $a$ .

Options :

1. ✖ 2.5

2. ✔ 6

3. ✖ 5

4. ✖ 1.5

Question Number : 113 Question Id : 54592730615 Question Type : MCQ Option Shuffling : Yes

Correct Marks : 1 Wrong Marks : 0.25

दो संकेन्द्रित वृत्त जिनकी त्रिज्याएँ  $a$  सेमी और  $(a + 2)$  सेमी हैं, एक कागज पर बनाए जाते हैं। उनके क्षेत्रों के बीच का अंतर 88 वर्ग सेमी है।  $a$  का मान ज्ञात करें।

Options :

1. ✖ 2.5

2. ✔ 6

3. ✖ 5

4. ✖ 1.5

Question Number : 114 Question Id : 54592730616 Question Type : MCQ Option Shuffling : Yes

Correct Marks : 1 Wrong Marks : 0.25

Area of a rhombus is  $175 \text{ cm}^2$ . Length of one diagonal is 25 cm. Find the length of other diagonal.

Options :

1. ✖ 10 cm

2. ✖ 15 cm

3. ✓ 14 cm

4. ✗ 12 cm

Question Number : 114 Question Id : 54592730616 Question Type : MCQ Option Shuffling : Yes

Correct Marks : 1 Wrong Marks : 0.25

एक समचतुर्भुज का क्षेत्रफल 175 वर्ग सेमी है। एक विकर्ण की लंबाई 25 सेमी है। अन्य विकर्ण की लंबाई ज्ञात कीजिए

Options :

1. ✗ 10 सेमी

2. ✗ 15 सेमी

3. ✓ 14 सेमी

4. ✗ 12 सेमी

Question Number : 115 Question Id : 54592730617 Question Type : MCQ Option Shuffling : Yes

Correct Marks : 1 Wrong Marks : 0.25

Study the following Table carefully to answer the questions.

The following Table represents the number (in thousands) of Fan produced by a company in the different years.

| year | Production |
|------|------------|
| 2012 | 40         |
| 2013 | 50         |
| 2014 | 52         |
| 2015 | 90         |
| 2016 | 64         |
| 2017 | 70         |

What was the approximate average number of Fan manufactured by company over all the years together?

Options :

1. ✗ 56000

2. ✖ 40000

3. ✖ 50000

4. ✔ 61000

Question Number : 115 Question Id : 54592730617 Question Type : MCQ Option Shuffling : Yes

Correct Marks : 1 Wrong Marks : 0.25

निम्नलिखित प्रश्नों का उत्तर देने के लिए तालिका का ध्यानपूर्वक अध्ययन करें।

तालिका विभिन्न वर्षों में किसी कंपनी के द्वारा उत्पादित पंखा की संख्या (हजार में) को दर्शाता है।

| वर्ष | उत्पादन |
|------|---------|
| 2012 | 40      |
| 2013 | 50      |
| 2014 | 52      |
| 2015 | 90      |
| 2016 | 64      |
| 2017 | 70      |

सभी वर्षों में कंपनी द्वारा निर्मित पंखा की लग-भग औसत संख्या क्या थी?

Options :

1. ✖ 56000

2. ✖ 40000

3. ✖ 50000

4. ✔ 61000

Question Number : 116 Question Id : 54592730618 Question Type : MCQ Option Shuffling : Yes

Correct Marks : 1 Wrong Marks : 0.25

Study the following table carefully to answer these questions:

The table gives the number of students in different school and the percentage of students in it who like Volleyball and Basketball.

| School | Number of students | Volleyball | Basketball |
|--------|--------------------|------------|------------|
| A      | 120                | 30%        | 40%        |
| B      | 140                | 30%        | 25%        |
| C      | 160                | 25%        | 28%        |
| D      | 180                | 25%        | 25%        |
| E      | 240                | 27%        | 40%        |

By what percentage is the number of students who like Volleyball in School D is more than those who like Basketball in School B?

Options :

- ✘ 12.50 percent
- ✘ 33.33 percent
- ✘ 66.66 percent
- ✔ 28.57 percent

Question Number : 116 Question Id : 54592730618 Question Type : MCQ Option Shuffling : Yes

Correct Marks : 1 Wrong Marks : 0.25



निम्नलिखित प्रश्नों का उत्तर देने के लिए सावधानीपूर्वक निम्नलिखित तालिका का अध्ययन करें।

तालिका विभिन्न विद्यालय के छात्रों की संख्या और उसमें, वॉलीबॉल तथा बास्केटबॉल पसंद करने वाले छात्रों का प्रतिशत दर्शाती है।

| विद्यालय | छात्रों की संख्या | वॉलीबॉल | बास्केटबॉल |
|----------|-------------------|---------|------------|
| A        | 120               | 30%     | 40%        |
| B        | 140               | 30%     | 25%        |
| C        | 160               | 25%     | 28%        |
| D        | 180               | 25%     | 25%        |
| E        | 240               | 27%     | 40%        |

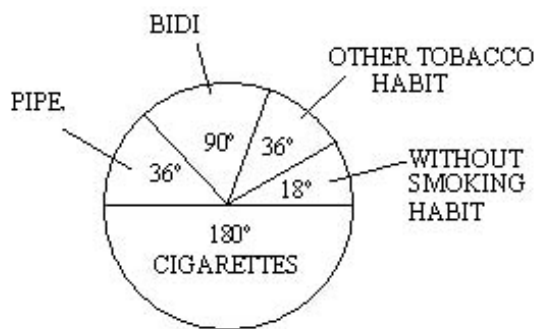
विद्यालय D में वॉलीबॉल पसंद करने वाले छात्रों की संख्या, विद्यालय B में बास्केटबॉल पसंद करने वालों छात्रों से कितना प्रतिशत अधिक है।

Options :

1. \* 12.50 प्रतिशत
2. \* 33.33 प्रतिशत
3. \* 66.66 प्रतिशत
4. ✓ 28.57 प्रतिशत

Question Number : 117 Question Id : 54592730619 Question Type : MCQ Option Shuffling : Yes  
Correct Marks : 1 Wrong Marks : 0.25

The Pie-chart shows the result of a survey among 123060 people concerning the use of tobacco. Study the Pie-chart and answer the question.



Percentage of people under survey, who have habit of Bidi are:

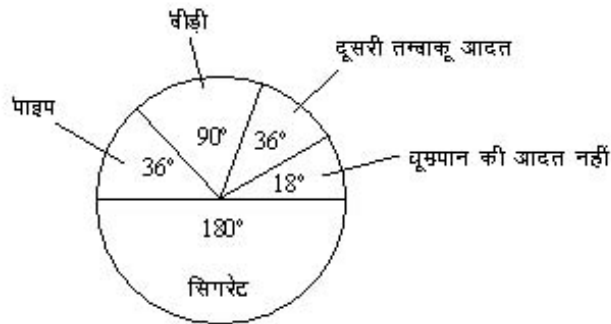
Options :

1. ✖ 7.5 percent
2. ✖ 20 percent
3. ✔ 25 percent
4. ✖ 5.2 percent

Question Number : 117 Question Id : 54592730619 Question Type : MCQ Option Shuffling : Yes

Correct Marks : 1 Wrong Marks : 0.25

पार्इ-चार्ट में तम्बाकू का सेवन करने से संबद्ध 123060 लोगों के सर्वेक्षण से प्राप्त परिणाम को दर्शाया गया है। पार्इ-चार्ट का अध्ययन कीजिए और प्रश्नों के उत्तर दीजिए।



सर्वेक्षण के तहत उन लोगों का प्रतिशत, जिनको बीड़ी की आदत है:

Options :

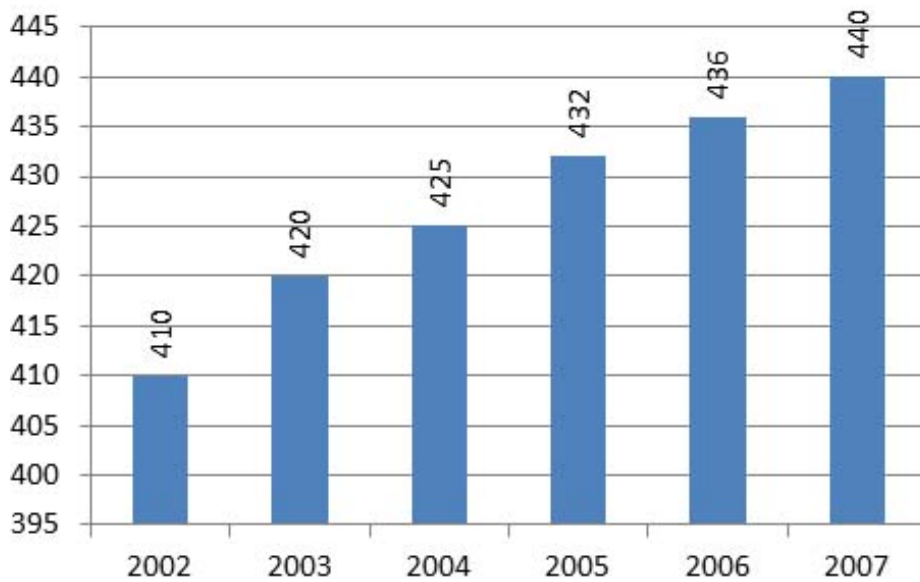
1. ✘ 7.5 प्रतिशत
2. ✘ 20 प्रतिशत
3. ✔ 25 प्रतिशत
4. ✘ 5.2 प्रतिशत

Question Number : 118 Question Id : 54592730620 Question Type : MCQ Option Shuffling : Yes

Correct Marks : 1 Wrong Marks : 0.25

Study the following graph carefully to answer these questions:

The following graph represents Populations (in thousands) of a States over the years



The ratio of population of state in 2004 and population of State in 2006 is:

Options :

1. ✖ 123 : 215

2. ✔ 425 : 436

3. ✖ 16 : 17

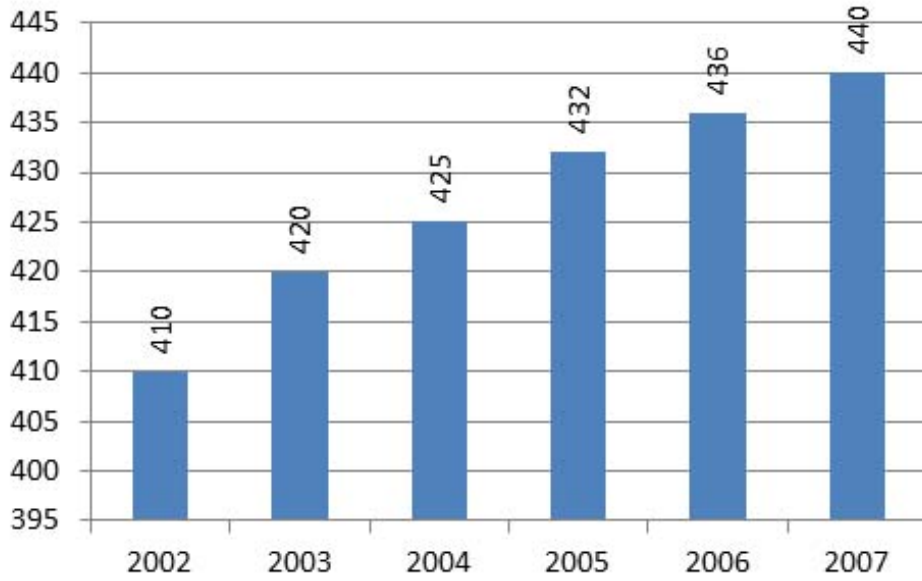
4. ✖ 81 : 80

Question Number : 118 Question Id : 54592730620 Question Type : MCQ Option Shuffling : Yes

Correct Marks : 1 Wrong Marks : 0.25

निम्नलिखित प्रश्नों का उत्तर देने के लिए सावधानीपूर्वक ग्राफ का अध्ययन करें।

निम्नलिखित ग्राफ दिए गए वर्षों में किसी राज्य की जनसंख्या (हजार में) को दर्शाता है।



2004 में राज्य की जनसंख्या और 2006 में राज्य की जनसंख्या का अनुपात है:

Options :

1. ✘ 123 : 215

2. ✔ 425 : 436

3. ✘ 16 : 17

4. ✘ 81 : 80

Question Number : 119 Question Id : 54592730621 Question Type : MCQ Option Shuffling : Yes

Correct Marks : 1 Wrong Marks : 0.25

Study the following graph carefully to answer these questions:

Production and sale of Printers of 3 different Companies in a month



Which Company had the highest percentage of sale with respect to its production?

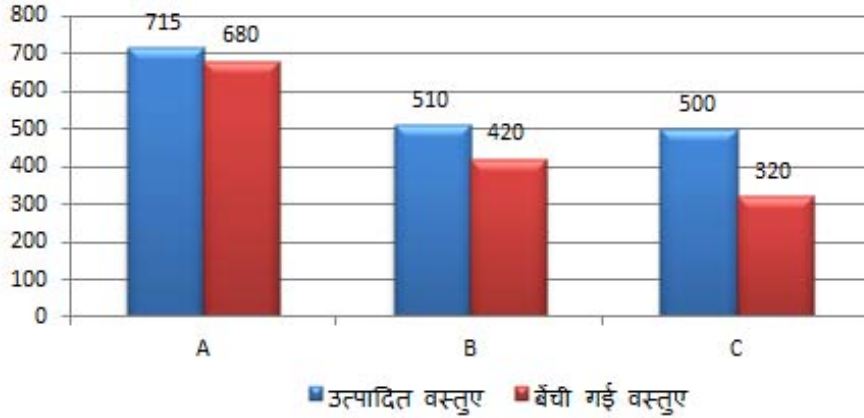
Options :

1. ✓ A
2. ✗ B
3. ✗ C
4. ✗ D

Question Number : 119 Question Id : 54592730621 Question Type : MCQ Option Shuffling : Yes  
Correct Marks : 1 Wrong Marks : 0.25

निम्नलिखित प्रश्नों का उत्तर देने के लिए सावधानीपूर्वक ग्राफ का अध्ययन करें।

किसी महीने में 3 विभिन्न कंपनियों के प्रिंटर का उत्पादन और बिक्री



किस कंपनी का बिक्री प्रतिशत उत्पादन के सापेक्ष अधिकतम है?

Options :

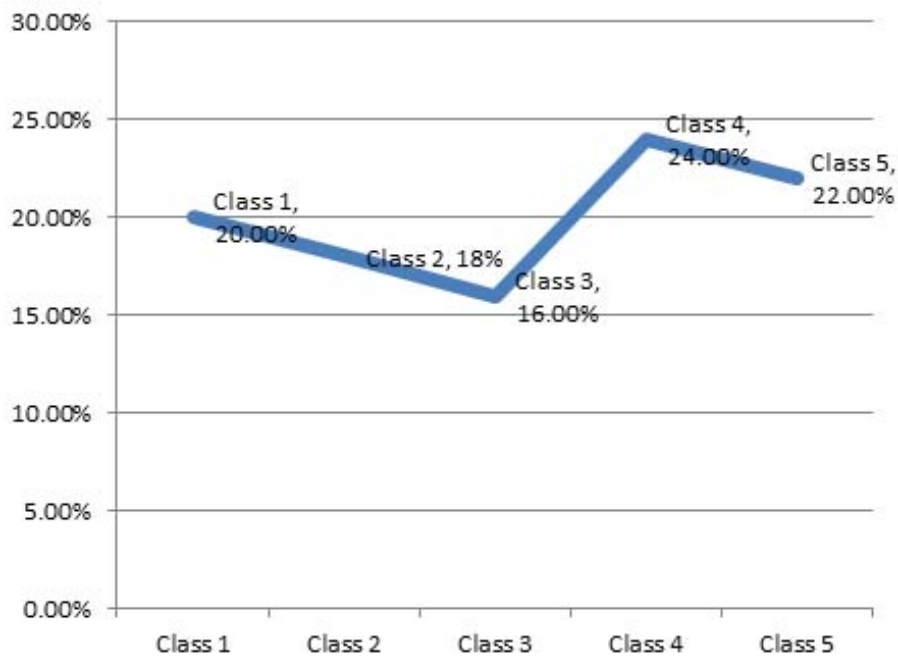
- ✓ A
- ✗ B
- ✗ C
- ✗ D

Question Number : 120 Question Id : 54592730622 Question Type : MCQ Option Shuffling : Yes  
Correct Marks : 1 Wrong Marks : 0.25

Study the following graph carefully to answer the questions.

The following Line graph shows the percentage of students studying in different classes of a primary school.

Total Number of Students = 1000



The number of students studying in the Class 1 is what percent of the number of students of Class 4?

Options :

1. ✓ 83.33 percent
2. ✗ 33.33 percent
3. ✗ 62 percent
4. ✗ 72.5 percent

Question Number : 120 Question Id : 54592730622 Question Type : MCQ Option Shuffling : Yes

Correct Marks : 1 Wrong Marks : 0.25



निम्नलिखित लाइन ग्राफ एक प्राथमिक स्कूल के विभिन्न कक्षाओं में पढ़ने वाले विद्यार्थियों के प्रतिशत को दर्शाता है।

विद्यार्थियों की कुल संख्या = 1000



कक्षा 1 में पढ़ने वाली विद्यार्थियों की संख्या कक्षा 4 में पढ़ने वाली विद्यार्थियों की संख्या का कितना प्रतिशत है?

Options :

1. ✓ 83.33 प्रतिशत
2. ✗ 33.33 प्रतिशत
3. ✗ 62 प्रतिशत
4. ✗ 72.5 प्रतिशत

## General English1

Group Number :

7

Group Id :

5459271517

Group Maximum Duration :

0

|   |     |
|---|-----|
| Group Minimum Duration :                  | 0   |
| Show Attended Group? :                    | No  |
| Edit Attended Group? :                    | No  |
| Break time:                               | 0   |
| Group Marks:                              | 20  |
| Is this Group for Examiner?:              | No  |
| Revisit allowed for group Instructions? : | Yes |
| Maximum Instruction Time:                 | 0   |
| Minimum Instruction Time:                 | 0   |

## General English1

|                                      |            |
|--------------------------------------|------------|
| Section Id :                         | 5459271517 |
| Section Number :                     | 1          |
| Section type :                       | Online     |
| Mandatory or Optional:               | Mandatory  |
| Number of Questions:                 | 20         |
| Number of Questions to be attempted: | 20         |
| Section Marks:                       | 20         |

|                              |            |
|------------------------------|------------|
| Sub-Section Number:          | 1          |
| Sub-Section Id:              | 5459271819 |
| Question Shuffling Allowed : | Yes        |

Question Number : 121 Question Id : 54592730623 Question Type : MCQ Option Shuffling : Yes  
Correct Marks : 1 Wrong Marks : 0.25

Identify the segment in the sentence which contains the grammatical error from the given options.

The earthquake was in a fairly unpopulated area, but a lot of people feel it.

Options :

1. ✖ The earthquake was
2. ✖ in a fairly unpopulated
3. ✖ area, but a
4. ✔ lot of people feel it.

Question Number : 121 Question Id : 54592730623 Question Type : MCQ Option Shuffling : Yes  
Correct Marks : 1 Wrong Marks : 0.25

Identify the segment in the sentence which contains the grammatical error from the given options.

The earthquake was in a fairly unpopulated area, but a lot of people feel it.

Options :

1. ✖ The earthquake was
2. ✖ in a fairly unpopulated
3. ✖ area, but a
4. ✔ lot of people feel it.

Question Number : 122 Question Id : 54592730624 Question Type : MCQ Option Shuffling : Yes

Correct Marks : 1 Wrong Marks : 0.25

Identify the segment in the sentence which contains the grammatical error from the given options.

Taxpayers who do not have a PAN card can filed returns quoting their Aadhaar number.

Options :

1. ✖ Taxpayers who do not
2. ✖ have a PAN card can
3. ✔ filed returns quoting
4. ✖ their Aadhaar number.

Question Number : 122 Question Id : 54592730624 Question Type : MCQ Option Shuffling : Yes

Correct Marks : 1 Wrong Marks : 0.25

Identify the segment in the sentence which contains the grammatical error from the given options.

Taxpayers who do not have a PAN card can filed returns quoting their Aadhaar number.

Options :

1. ✖ Taxpayers who do not
2. ✖ have a PAN card can
3. ✔ filed returns quoting
4. ✖ their Aadhaar number.

Question Number : 123 Question Id : 54592730625 Question Type : MCQ Option Shuffling : Yes  
Correct Marks : 1 Wrong Marks : 0.25

Identify the segment in the sentence which contains the grammatical error from the given options.

It's normal to be scary during an earthquake, which can rock the ground like a boat in rough water.

Options :

1. ✔ It's normal to be scary
2. ✖ during an earthquake
3. ✖ which can rock the
4. ✖ ground like a boat

Question Number : 123 Question Id : 54592730625 Question Type : MCQ Option Shuffling : Yes  
Correct Marks : 1 Wrong Marks : 0.25

Identify the segment in the sentence which contains the grammatical error from the given options.

It's normal to be scary during an earthquake, which can rock the ground like a boat in rough water.

Options :

1. ✓ It's normal to be scary
2. ✗ during an earthquake
3. ✗ which can rock the
4. ✗ ground like a boat

Question Number : 124 Question Id : 54592730626 Question Type : MCQ Option Shuffling : Yes  
Correct Marks : 1 Wrong Marks : 0.25

Identify the segment in the sentence which contains the grammatical error from the given options.

For as long as humans have lived on planet Earth, the moon is been a focus of fascination.

Options :

1. ✗ For as long as
2. ✗ have lived on
3. ✓ the moon is been
4. ✗ a focus of fascination.

Question Number : 124 Question Id : 54592730626 Question Type : MCQ Option Shuffling : Yes  
Correct Marks : 1 Wrong Marks : 0.25

Identify the segment in the sentence which contains the grammatical error from the given options.

For as long as humans have lived on planet Earth, the moon is been a focus of fascination.

Options :

1. ✖ For as long as
2. ✖ have lived on
3. ✔ the moon is been
4. ✖ a focus of fascination.

Question Number : 125 Question Id : 54592730627 Question Type : MCQ Option Shuffling : Yes  
Correct Marks : 1 Wrong Marks : 0.25

Identify the segment in the sentence which contains the grammatical error from the given options.

Lions are more likely to attack in drought years like 1965— which is an abnormally dry one in Kenya.

Options :

1. ✖ Lions are more likely
2. ✖ in drought years
3. ✔ which is an abnormally
4. ✖ dry one in Kenya.

Question Number : 125 Question Id : 54592730627 Question Type : MCQ Option Shuffling : Yes  
Correct Marks : 1 Wrong Marks : 0.25

Identify the segment in the sentence which contains the grammatical error from the given options.

Lions are more likely to attack in drought years like 1965— which is an abnormally dry one in Kenya.

Options :

1. ✖ Lions are more likely
2. ✖ in drought years
3. ✔ which is an abnormally
4. ✖ dry one in Kenya.

Question Number : 126 Question Id : 54592730628 Question Type : MCQ Option Shuffling : Yes  
Correct Marks : 1 Wrong Marks : 0.25

Select the most appropriate option to substitute the underlined segment in the given sentence. If there is no need to substitute it, select option No substitution required.

The climate kept on change, bringing ever more irregular rains, storms, and temperature swings.

Options :

1. ✔ keeps on changing
2. ✖ keeping on changing
3. ✖ kept on changed
4. ✖ No substitution required

Question Number : 126 Question Id : 54592730628 Question Type : MCQ Option Shuffling : Yes

Correct Marks : 1 Wrong Marks : 0.25

Select the most appropriate option to substitute the underlined segment in the given sentence. If there is no need to substitute it, select option No substitution required.

The climate kept on change, bringing ever more irregular rains, storms, and temperature swings.

Options :

1. ✓ keeps on changing
2. ✗ keeping on changing
3. ✗ kept on changed
4. ✗ No substitution required

Question Number : 127 Question Id : 54592730629 Question Type : MCQ Option Shuffling : Yes

Correct Marks : 1 Wrong Marks : 0.25

Select the most appropriate option to substitute the underlined segment in the given sentence. If there is no need to substitute it, select option No substitution required.

In the United States, at least 300 people has been attacking by an exotic pet since 1990.

Options :

1. ✗ had been attack
2. ✓ have been attacked



3. ✖ have been attacking

4. ✖ No substitution required

Question Number : 127 Question Id : 54592730629 Question Type : MCQ Option Shuffling : Yes  
Correct Marks : 1 Wrong Marks : 0.25

Select the most appropriate option to substitute the underlined segment in the given sentence. If there is no need to substitute it, select option No substitution required.

In the United States, at least 300 people has been attacking by an exotic pet since 1990.

Options :

1. ✖ had been attack

2. ✔ have been attacked

3. ✖ have been attacking

4. ✖ No substitution required

Question Number : 128 Question Id : 54592730630 Question Type : MCQ Option Shuffling : Yes  
Correct Marks : 1 Wrong Marks : 0.25

Select the most appropriate option to substitute the underlined segment in the given sentence. If there is no need to substitute it, select option No substitution required.

Egg smuggling is a crime that is growing in numbers because eggs are easy to smuggle then live birds.

Options :

1. ✖ is easy to smuggle than
2. ✖ are easy to smuggling than
3. ✔ are easier to smuggle than
4. ✖ No substitution required

Question Number : 128 Question Id : 54592730630 Question Type : MCQ Option Shuffling : Yes

Correct Marks : 1 Wrong Marks : 0.25

Select the most appropriate option to substitute the underlined segment in the given sentence. If there is no need to substitute it, select option No substitution required.

Egg smuggling is a crime that is growing in numbers because eggs are easy to smuggle then live birds.

Options :

1. ✖ is easy to smuggle than
2. ✖ are easy to smuggling than
3. ✔ are easier to smuggle than
4. ✖ No substitution required

Question Number : 129 Question Id : 54592730631 Question Type : MCQ Option Shuffling : Yes

Correct Marks : 1 Wrong Marks : 0.25

Select the most appropriate option to substitute the underlined segment in the given sentence. If there is no need to substitute it, select option No substitution required.

The monk parakeet is one of 25 tropical parrot species that have gone from pet to wild animal.

Options :

1. ✖ has gone from
2. ✖ have been going from
3. ✖ had been gone from
4. ✔ No substitution required

Question Number : 129 Question Id : 54592730631 Question Type : MCQ Option Shuffling : Yes  
Correct Marks : 1 Wrong Marks : 0.25

Select the most appropriate option to substitute the underlined segment in the given sentence. If there is no need to substitute it, select option No substitution required.

The monk parakeet is one of 25 tropical parrot species that have gone from pet to wild animal.

Options :

1. ✖ has gone from
2. ✖ have been going from
3. ✖ had been gone from
4. ✔ No substitution required

Question Number : 130 Question Id : 54592730632 Question Type : MCQ Option Shuffling : Yes  
Correct Marks : 1 Wrong Marks : 0.25

Select the most appropriate option to substitute the underlined segment in the given sentence. If there is no need to substitute it, select option No substitution required.

For the best wolf sightings, visit in summer or midwinter and search at the earlier morning.

Options :

1. ✓ during the early morning.
2. ✗ in the earlier mornings.
3. ✗ at the early morning.
4. ✗ No substitution required

Question Number : 130 Question Id : 54592730632 Question Type : MCQ Option Shuffling : Yes  
Correct Marks : 1 Wrong Marks : 0.25

Select the most appropriate option to substitute the underlined segment in the given sentence. If there is no need to substitute it, select option No substitution required.

For the best wolf sightings, visit in summer or midwinter and search at the earlier morning.

Options :

1. ✓ during the early morning.
2. ✗ in the earlier mornings.
3. ✗ at the early morning.
4. ✗ No substitution required

Question Number : 131 Question Id : 54592730633 Question Type : MCQ Option Shuffling : Yes  
Correct Marks : 1 Wrong Marks : 0.25

Select the most appropriate word to fill in the blank.

A study shows \_\_\_\_\_ that forest restoration is the best climate change solution available today.

Options :

1. ✓ clearly
2. ✗ nearly
3. ✗ hardly
4. ✗ barely

Question Number : 131 Question Id : 54592730633 Question Type : MCQ Option Shuffling : Yes  
Correct Marks : 1 Wrong Marks : 0.25

Select the most appropriate word to fill in the blank.

A study shows \_\_\_\_\_ that forest restoration is the best climate change solution available today.

Options :

1. ✓ clearly
2. ✗ nearly
3. ✗ hardly
4. ✗ barely

Question Number : 132 Question Id : 54592730634 Question Type : MCQ Option Shuffling : Yes  
Correct Marks : 1 Wrong Marks : 0.25

Select the most appropriate word to fill in the blank.

Methane stays in the atmosphere for less time than carbon, it's highly effective \_\_\_\_\_ trapping heat.

Options :

1. ✗ of

2. ✓ at

3. ✗ for

4. ✗ by

Question Number : 132 Question Id : 54592730634 Question Type : MCQ Option Shuffling : Yes  
Correct Marks : 1 Wrong Marks : 0.25

Select the most appropriate word to fill in the blank.

Methane stays in the atmosphere for less time than carbon, it's highly effective \_\_\_\_\_ trapping heat.

Options :

1. ✗ of

2. ✓ at

3. ✗ for

4. ✗ by

Question Number : 133 Question Id : 54592730635 Question Type : MCQ Option Shuffling : Yes  
Correct Marks : 1 Wrong Marks : 0.25

Select the most appropriate word to fill in the blank.

If the whole of the Greenland ice cap melts, the sea level will rise \_\_\_\_\_ six and seven meters.

Options :

1. ✗ among

2. ✗ besides

3. ✓ between

4. ✗ beneath

Question Number : 133 Question Id : 54592730635 Question Type : MCQ Option Shuffling : Yes

Correct Marks : 1 Wrong Marks : 0.25

Select the most appropriate word to fill in the blank.

If the whole of the Greenland ice cap melts, the sea level will rise \_\_\_\_\_ six and seven meters.

Options :

1. ✘ among
2. ✘ besides
3. ✔ between
4. ✘ beneath

Question Number : 134 Question Id : 54592730636 Question Type : MCQ Option Shuffling : Yes  
Correct Marks : 1 Wrong Marks : 0.25

Select the most appropriate word to fill in the blank.

\_\_\_\_\_ I was initially interested in art, I felt more of a connection to music.

Options :

1. ✘ As
2. ✘ but
3. ✘ for
4. ✔ Even though

Question Number : 134 Question Id : 54592730636 Question Type : MCQ Option Shuffling : Yes  
Correct Marks : 1 Wrong Marks : 0.25

Select the most appropriate word to fill in the blank.

\_\_\_\_\_ I was initially interested in art, I felt more of a connection to music.

Options :

1. ✖ As
2. ✖ but
3. ✖ for
4. ✔ Even though

Question Number : 135 Question Id : 54592730637 Question Type : MCQ Option Shuffling : Yes  
Correct Marks : 1 Wrong Marks : 0.25

Select the most appropriate word to fill in the blank.

Because I travel so much, I not only feel like a citizen of the world, \_\_\_\_\_ like a part of a global family.

Options :

1. ✔ but also
2. ✖ and also
3. ✖ but
4. ✖ and

Question Number : 135 Question Id : 54592730637 Question Type : MCQ Option Shuffling : Yes  
Correct Marks : 1 Wrong Marks : 0.25



Select the most appropriate word to fill in the blank.

Because I travel so much, I not only feel like a citizen of the world, \_\_\_\_\_ like a part of a global family.

Options :

1. ✓ but also
2. ✗ and also
3. ✗ but
4. ✗ and

Question Number : 136 Question Id : 54592730638 Question Type : MCQ Option Shuffling : Yes

Correct Marks : 1 Wrong Marks : 0.25

Select the most appropriate word to fill in the blank.

Everyone in the township was so kind and so welcoming \_\_\_\_\_ I felt truly humbled.

Options :

1. ✗ when
2. ✓ that
3. ✗ as
4. ✗ since

Question Number : 136 Question Id : 54592730638 Question Type : MCQ Option Shuffling : Yes

Correct Marks : 1 Wrong Marks : 0.25

Select the most appropriate word to fill in the blank.

Everyone in the township was so kind and so welcoming \_\_\_\_\_ I felt truly humbled.

Options :

1. ✖ when

2. ✔ that

3. ✖ as

4. ✖ since

Question Number : 137 Question Id : 54592730639 Question Type : MCQ Option Shuffling : Yes

Correct Marks : 1 Wrong Marks : 0.25

Select the most appropriate word to fill in the blank.

Caught between the deep waters of the Arctic and Atlantic, \_\_\_\_\_ experiencing climate change from both directions.

Options :

1. ✖ its

2. ✖ they

3. ✔ it's

4. ✖ them

Question Number : 137 Question Id : 54592730639 Question Type : MCQ Option Shuffling : Yes

Correct Marks : 1 Wrong Marks : 0.25

Select the most appropriate word to fill in the blank.

Caught between the deep waters of the Arctic and Atlantic, \_\_\_\_\_ experiencing climate change from both directions.

Options :

1. ✖ its
2. ✖ they
3. ✔ it's
4. ✖ them

Question Number : 138 Question Id : 54592730640 Question Type : MCQ Option Shuffling : Yes  
Correct Marks : 1 Wrong Marks : 0.25

Select the most appropriate word to fill in the blank.

Measuring 10 feet tall, the African savanna elephant is one of \_\_\_\_\_ land animals on Earth.

Options :

1. ✖ large
2. ✖ larger
3. ✖ more larger
4. ✔ the largest

Question Number : 138 Question Id : 54592730640 Question Type : MCQ Option Shuffling : Yes  
Correct Marks : 1 Wrong Marks : 0.25

Select the most appropriate word to fill in the blank.

Measuring 10 feet tall, the African savanna elephant is one of \_\_\_\_\_ land animals on Earth.

Options :

1. ✘ large
2. ✘ larger
3. ✘ more larger
4. ✔ the largest

Question Number : 139 Question Id : 54592730641 Question Type : MCQ Option Shuffling : Yes

Correct Marks : 1 Wrong Marks : 0.25

Rearrange the following sentences in their correct order to form a meaningful paragraph.

A: In a bid to save Mount Everest from trash, Nepal conducted a month-long cleaning campaign.

B: Instead of sending the solid waste straight to the landfill near Kathmandu, the items were segregated, processed and recycled as raw materials for various products.

C: For the mega clean-up drive, government and non-government agencies, along with a dedicated Sherpa team, not only brought the litter down but also removed four dead bodies from the roof of the world.

D: It collected around 10,000 kg of rubbish from the region.

Options :

1. ✔ ADCB
2. ✘ ADBC

3. ✖ CBAD

4. ✖ BCAD

Question Number : 139 Question Id : 54592730641 Question Type : MCQ Option Shuffling : Yes  
Correct Marks : 1 Wrong Marks : 0.25

Rearrange the following sentences in their correct order to form a meaningful paragraph.

A: In a bid to save Mount Everest from trash, Nepal conducted a month-long cleaning campaign.

B: Instead of sending the solid waste straight to the landfill near Kathmandu, the items were segregated, processed and recycled as raw materials for various products.

C: For the mega clean-up drive, government and non-government agencies, along with a dedicated Sherpa team, not only brought the litter down but also removed four dead bodies from the roof of the world.

D: It collected around 10,000 kg of rubbish from the region.

Options :

1. ✔ ADCB

2. ✖ ADBC

3. ✖ CBAD

4. ✖ BCAD

Question Number : 140 Question Id : 54592730642 Question Type : MCQ Option Shuffling : Yes  
Correct Marks : 1 Wrong Marks : 0.25

A sentence has four parts, rearrange the given parts so as to form a meaningful sentence.

A: in India but we now have

B: writings by Indians in English

C: English is not only widely used

D: an impressive body of literary

Options :

1. ✖ CBAD

2. ✔ CADB

3. ✖ CDAB

4. ✖ CABD

Question Number : 140 Question Id : 54592730642 Question Type : MCQ Option Shuffling : Yes

Correct Marks : 1 Wrong Marks : 0.25

A sentence has four parts, rearrange the given parts so as to form a meaningful sentence.

A: in India but we now have

B: writings by Indians in English

C: English is not only widely used

D: an impressive body of literary

Options :

1. ✖ CBAD

2. ✔ CADB

3. ✖ CDAB

4. ✖ CABD

## General English2

|  |            |
|--|------------|
| <b>Group Number :</b>                            | 8          |
| <b>Group Id :</b>                                | 5459271518 |
| <b>Group Maximum Duration :</b>                  | 0          |
| <b>Group Minimum Duration :</b>                  | 0          |
| <b>Show Attended Group? :</b>                    | No         |
| <b>Edit Attended Group? :</b>                    | No         |
| <b>Break time:</b>                               | 0          |
| <b>Group Marks:</b>                              | 20         |
| <b>Is this Group for Examiner?:</b>              | No         |
| <b>Revisit allowed for group Instructions? :</b> | Yes        |
| <b>Maximum Instruction Time:</b>                 | 0          |
| <b>Minimum Instruction Time:</b>                 | 0          |

## General English2

|   |            |
|---|------------|
| <b>Section Id :</b>                         | 5459271518 |
| <b>Section Number :</b>                     | 1          |
| <b>Section type :</b>                       | Online     |
| <b>Mandatory or Optional:</b>               | Mandatory  |
| <b>Number of Questions:</b>                 | 16         |
| <b>Number of Questions to be attempted:</b> | 16         |
| <b>Section Marks:</b>                       | 20         |

|                                     |            |
|-------------------------------------|------------|
| <b>Sub-Section Number:</b>          | 1          |
| <b>Sub-Section Id:</b>              | 5459271820 |
| <b>Question Shuffling Allowed :</b> | Yes        |

**Question Number : 141 Question Id : 54592730643 Question Type : MCQ Option Shuffling : Yes  
Correct Marks : 1 Wrong Marks : 0.25**

Rearrange the following sentences in their correct order to form a meaningful paragraph.

A: While knowing about its past in ancient and medieval times is very important, its colonial experience is particularly significant for comprehending modern India

B: India has a long and rich history.

C: This holds true probably as much for an individual or social group as for an entire country such as India.

D: Understanding the present usually involves some grasp of its past.

Options :

1. ✖ BACD

2. ✖ BADC

3. ✔ DCBA

4. ✖ DBAC

Question Number : 141 Question Id : 54592730643 Question Type : MCQ Option Shuffling : Yes

Correct Marks : 1 Wrong Marks : 0.25



Rearrange the following sentences in their correct order to form a meaningful paragraph.

A: While knowing about its past in ancient and medieval times is very important, its colonial experience is particularly significant for comprehending modern India

B: India has a long and rich history.

C: This holds true probably as much for an individual or social group as for an entire country such as India.

D: Understanding the present usually involves some grasp of its past.

Options :

1. ✖ BACD

2. ✖ BADC

3. ✔ DCBA

4. ✖ DBAC

Question Number : 142 Question Id : 54592730644 Question Type : MCQ Option Shuffling : Yes  
Correct Marks : 1 Wrong Marks : 0.25

Select the synonym of the given word.

Coarse

Options :

1. ✔ Rough

2. ✖ Stiff

3. ✖ Tired

4. ✖ Smooth

Question Number : 142 Question Id : 54592730644 Question Type : MCQ Option Shuffling : Yes  
Correct Marks : 1 Wrong Marks : 0.25

Select the synonym of the given word.

Coarse

Options :

1. ✓ Rough
2. ✗ Stiff
3. ✗ Tired
4. ✗ Smooth

Question Number : 143 Question Id : 54592730645 Question Type : MCQ Option Shuffling : Yes  
Correct Marks : 1 Wrong Marks : 0.25

Select the antonym of the given word.

Destitute

Options :

1. ✗ Unfortunate
2. ✓ Wealthy
3. ✗ Defective
4. ✗ Rotten

Question Number : 143 Question Id : 54592730645 Question Type : MCQ Option Shuffling : Yes  
Correct Marks : 1 Wrong Marks : 0.25

Select the antonym of the given word.

Destitute

Options :

1. ✖ Unfortunate

2. ✔ Wealthy

3. ✖ Defective

4. ✖ Rotten

Question Number : 144 Question Id : 54592730646 Question Type : MCQ Option Shuffling : Yes  
Correct Marks : 1 Wrong Marks : 0.25

Select the synonym of the given word.

Diminish

Options :

1. ✖ Disappear

2. ✖ Diverse

3. ✔ Decline

4. ✖ Disclose

Question Number : 144 Question Id : 54592730646 Question Type : MCQ Option Shuffling : Yes  
Correct Marks : 1 Wrong Marks : 0.25

Select the synonym of the given word.

Diminish

Options :

1. ✖ Disappear

2. ✖ Diverse

3. ✔ Decline

4. ✖ Disclose

Question Number : 145 Question Id : 54592730647 Question Type : MCQ Option Shuffling : Yes  
Correct Marks : 1 Wrong Marks : 0.25

Select the antonym of the given word.

Glorify

Options :

1. ✓ Vilify
2. ✗ Praise
3. ✗ Prohibit
4. ✗ Amuse

Question Number : 145 Question Id : 54592730647 Question Type : MCQ Option Shuffling : Yes  
Correct Marks : 1 Wrong Marks : 0.25

Select the antonym of the given word.

Glorify

Options :

1. ✓ Vilify
2. ✗ Praise
3. ✗ Prohibit
4. ✗ Amuse

Question Number : 146 Question Id : 54592730648 Question Type : MCQ Option Shuffling : Yes  
Correct Marks : 1 Wrong Marks : 0.25

Select the synonym of the given word.

Consent

Options :

1. ✗ Significance
2. ✓ Permission
3. ✗ Proposal

## 4. ✖ Opportunity

Question Number : 146 Question Id : 54592730648 Question Type : MCQ Option Shuffling : Yes  
Correct Marks : 1 Wrong Marks : 0.25

Select the synonym of the given word.

Consent

Options :

1. ✖ Significance
2. ✔ Permission
3. ✖ Proposal
4. ✖ Opportunity

Question Number : 147 Question Id : 54592730649 Question Type : MCQ Option Shuffling : Yes  
Correct Marks : 1 Wrong Marks : 0.25

Select the wrongly spelt word.

Options :

1. ✔ Integrity
2. ✖ Exclusive
3. ✖ Adorable
4. ✖ Validate

Question Number : 147 Question Id : 54592730649 Question Type : MCQ Option Shuffling : Yes  
Correct Marks : 1 Wrong Marks : 0.25

Select the wrongly spelt word.

Options :

1. ✔ Integrity
2. ✖ Exclusive
3. ✖ Adorable

## 4. ✖ Validate

Question Number : 148 Question Id : 54592730650 Question Type : MCQ Option Shuffling : Yes  
Correct Marks : 1 Wrong Marks : 0.25

Select the wrongly spelt word.

Options :

1. ✖ Vulnerable
2. ✔ Pretentious
3. ✖ Consequence
4. ✖ Improbable

Question Number : 148 Question Id : 54592730650 Question Type : MCQ Option Shuffling : Yes  
Correct Marks : 1 Wrong Marks : 0.25

Select the wrongly spelt word.

Options :

1. ✖ Vulnerable
2. ✔ Pretentious
3. ✖ Consequence
4. ✖ Improbable

Question Number : 149 Question Id : 54592730651 Question Type : MCQ Option Shuffling : Yes  
Correct Marks : 1 Wrong Marks : 0.25

Select the wrongly spelt word.

Options :

1. ✖ Remuneration
2. ✖ Disconnected
3. ✔ Convergence
4. ✖ Significance

Question Number : 149 Question Id : 54592730651 Question Type : MCQ Option Shuffling : Yes

Correct Marks : 1 Wrong Marks : 0.25

Select the wrongly spelt word.

Options :

1. ✘ Remuneration
2. ✘ Disconnected
3. ✔ Convergence
4. ✘ Significance

Question Number : 150 Question Id : 54592730652 Question Type : MCQ Option Shuffling : Yes  
Correct Marks : 1 Wrong Marks : 0.25

Select the meaning of the given idiom.

Feel like a million dollars.

Options :

1. ✔ Feel healthy and happy
2. ✘ To be misunderstood
3. ✘ Feel confident
4. ✘ Involve in an argument

Question Number : 150 Question Id : 54592730652 Question Type : MCQ Option Shuffling : Yes  
Correct Marks : 1 Wrong Marks : 0.25

Select the meaning of the given idiom.

Feel like a million dollars.

Options :

1. ✓ Feel healthy and happy

2. ✗ To be misunderstood

3. ✗ Feel confident

4. ✗ Involve in an argument

Question Number : 151 Question Id : 54592730653 Question Type : MCQ Option Shuffling : Yes  
Correct Marks : 1 Wrong Marks : 0.25

Select the meaning of the given idiom.

As ugly as sin

Options :

1. ✗ To be uncultured

2. ✓ Be visually unattractive

3. ✗ Lacking faith

4. ✗ To be repetitive

Question Number : 151 Question Id : 54592730653 Question Type : MCQ Option Shuffling : Yes  
Correct Marks : 1 Wrong Marks : 0.25

Select the meaning of the given idiom.

As ugly as sin

Options :

1. ✗ To be uncultured

2. ✓ Be visually unattractive

3. ✗ Lacking faith

4. ✗ To be repetitive



Question Number : 152 Question Id : 54592730654 Question Type : MCQ Option Shuffling : Yes  
Correct Marks : 1 Wrong Marks : 0.25

Select the meaning of the given idiom.

As happy as Larry

Options :

1. ✖ To be unhappy
2. ✖ Be in a good company
3. ✔ In very good spirits
4. ✖ To pretend

Question Number : 152 Question Id : 54592730654 Question Type : MCQ Option Shuffling : Yes  
Correct Marks : 1 Wrong Marks : 0.25

Select the meaning of the given idiom.

As happy as Larry

Options :

1. ✖ To be unhappy
2. ✖ Be in a good company
3. ✔ In very good spirits
4. ✖ To pretend

Question Number : 153 Question Id : 54592730655 Question Type : MCQ Option Shuffling : Yes  
Correct Marks : 1 Wrong Marks : 0.25

Select the word which means the same as the group of words given.

The practice or custom of having more than one wife or husband at the same time.

Options :

1. ✓ Polygamy
2. ✗ Polymer
3. ✗ Polyglot
4. ✗ Polygon

Question Number : 153 Question Id : 54592730655 Question Type : MCQ Option Shuffling : Yes  
Correct Marks : 1 Wrong Marks : 0.25

Select the word which means the same as the group of words given.

The practice or custom of having more than one wife or husband at the same time.

Options :

1. ✓ Polygamy
2. ✗ Polymer
3. ✗ Polyglot
4. ✗ Polygon

Question Number : 154 Question Id : 54592730656 Question Type : MCQ Option Shuffling : Yes  
Correct Marks : 1 Wrong Marks : 0.25

Select the word which means the same as the group of words given.

Able to adapt or be adapted to many different functions or activities.

Options :

1. ✖ Fatalist
2. ✔ Versatile
3. ✖ Narcotic
4. ✖ Veteran

Question Number : 154 Question Id : 54592730656 Question Type : MCQ Option Shuffling : Yes  
Correct Marks : 1 Wrong Marks : 0.25

Select the word which means the same as the group of words given.

Able to adapt or be adapted to many different functions or activities.

Options :

1. ✖ Fatalist
2. ✔ Versatile
3. ✖ Narcotic
4. ✖ Veteran

Question Number : 155 Question Id : 54592730657 Question Type : MCQ Option Shuffling : Yes  
Correct Marks : 1 Wrong Marks : 0.25

Select the word which means the same as the group of words given.

Cut off (a limb) by surgical operation.

Options :

1. ✖ Crusade
2. ✖ Bouquet
3. ✔ Amputate
4. ✖ Homicide

Question Number : 155 Question Id : 54592730657 Question Type : MCQ Option Shuffling : Yes  
Correct Marks : 1 Wrong Marks : 0.25

Select the word which means the same as the group of words given.

Cut off (a limb) by surgical operation.

Options :

1. ✖ Crusade
2. ✖ Bouquet
3. ✔ Amputate
4. ✖ Homicide

|                              |            |
|------------------------------|------------|
| Sub-Section Number:          | 2          |
| Sub-Section Id:              | 5459271821 |
| Question Shuffling Allowed : | Yes        |

Question Id : 54592730658 Question Type : COMPREHENSION Sub Question Shuffling Allowed : Yes Group Comprehension Questions : No

Question Numbers : (156 to 160)

Question Label : Comprehension





Sub questions

Question Number : 156 Question Id : 54592730659 Question Type : MCQ Option Shuffling : Yes

Correct Marks : 1 Wrong Marks : 0.25

The author of the given passage is mainly concerned with:

Options :

1. ✓ Air pollution
2. ✗ Range of pollutants in the air
3. ✗ Climate change
4. ✗ Smog and soot

Question Number : 157 Question Id : 54592730660 Question Type : MCQ Option Shuffling : Yes

Correct Marks : 1 Wrong Marks : 0.25

The harmful effects of smog and soot doesn't include one of the following:

Options :

1. ✗ Irritation in the eyes
2. ✓ Heat related deaths
3. ✗ Damage to the lungs
4. ✗ Trigger asthma attacks

Question Number : 158 Question Id : 54592730661 Question Type : MCQ Option Shuffling : Yes

Correct Marks : 1 Wrong Marks : 0.25

The author of the passage doesn't mention one of the following options as possible solution to air pollution:

Options :

1. ✗ Buying locally produced food
2. ✗ Sensible choices about transportation

3. ✓ Flying food from across the country.

4. ✘ Less burning of fossil fuels.

Question Number : 159 Question Id : 54592730662 Question Type : MCQ Option Shuffling : Yes

Correct Marks : 1 Wrong Marks : 0.25

Which of the following is true as per the information mentioned in the passage:

Options :

1. ✘ Air pollution doesn't contribute to climate change.

2. ✘ Smog forms as a result of less ultraviolet radiation in the air.

3. ✘ Greenhouse gases lead to cooler temperatures on earth.

4. ✓ Mould and allergens from trees can be hazardous to health.

Question Number : 160 Question Id : 54592730663 Question Type : MCQ Option Shuffling : Yes

Correct Marks : 1 Wrong Marks : 0.25

The given passage is most likely to be taken from:

Options :

1. ✓ A science journal

2. ✘ A political magazine

3. ✘ An economic survey

4. ✘ A newspaper editorial

Question Id : 54592730658 Question Type : COMPREHENSION Sub Question Shuffling Allowed : Yes Group Comprehension Questions : No

Question Numbers : (156 to 160)

Question Label : Comprehension