

Education Consultant India Ltd.

Notations :

1.Options shown in **green** color and with ✓ icon are correct.

2.Options shown in **red** color and with ✖ icon are incorrect.

Question Paper Name:	Grade IV DASS Junior Assistant 05th September 2019 Shift 3
Subject Name:	GRADE IV DASS JUNIOR ASSISTANT
Creation Date:	2019-09-06 10:02:49
Duration:	120
Total Marks:	200
Display Marks:	Yes
Share Answer Key With Delivery Engine:	No
Actual Answer Key:	Yes
Calculator:	None
Magnifying Glass Required?:	No
Ruler Required?:	No
Eraser Required?:	No
Scratch Pad Required?:	No
Rough Sketch/Notepad Required?:	No
Protractor Required?:	No
Show Watermark on Console?:	Yes
Highlighter:	No
Auto Save on Console?:	No

Mental Ability1

Group Number :	1
Group Id :	5459271441
Group Maximum Duration :	0
Group Minimum Duration :	0
Show Attended Group? :	No
Edit Attended Group? :	No
Break time:	0
Group Marks:	20
Is this Group for Examiner?:	No
Revisit allowed for group Instructions? :	Yes
Maximum Instruction Time:	0
Minimum Instruction Time:	0

Mental Ability1

Section Id :	5459271441
Section Number :	1

Section type :	Online
Mandatory or Optional:	Mandatory
Number of Questions:	20
Number of Questions to be attempted:	20
Section Marks:	20

Sub-Section Number:	1
Sub-Section Id:	5459271729
Question Shuffling Allowed :	Yes

Question Number : 1 Question Id : 54592729089 Question Type : MCQ Option Shuffling : Yes
Correct Marks : 1 Wrong Marks : 0.25

Find out the next term.

2Y5, 2T0, 1O5, _____

Options :

1. ✘ 1P6

2. ✔ 1J0

3. ✘ 1R8

4. ✘ 1S9

Question Number : 1 Question Id : 54592729089 Question Type : MCQ Option Shuffling : Yes
Correct Marks : 1 Wrong Marks : 0.25

अगला पद ज्ञात करें।

2Y5, 2T0, 1O5, _____

Options :

1. ✘ 1P6

2. ✔ 1J0

3. ✘ 1R8

4. ✘ 1S9

Question Number : 2 Question Id : 54592729090 Question Type : MCQ Option Shuffling : Yes
Correct Marks : 1 Wrong Marks : 0.25

Find the wrong term in the series?

7N, 10T, 4H, 9Q

Options :

1. ✖ 7N
2. ✖ 10T
3. ✔ 9Q
4. ✖ 4H

Question Number : 2 Question Id : 54592729090 Question Type : MCQ Option Shuffling : Yes

Correct Marks : 1 Wrong Marks : 0.25

श्रृंखला में गलत पद खोजें?

7N, 10T, 4H, 9Q

Options :

1. ✖ 7N
2. ✖ 10T
3. ✔ 9Q
4. ✖ 4H

Question Number : 3 Question Id : 54592729091 Question Type : MCQ Option Shuffling : Yes

Correct Marks : 1 Wrong Marks : 0.25

If letters in the word 'SEASONED' are replaced by its next letter in the English alphabet then how many vowel are still there in the word?

Options :

1. ✖ One
2. ✔ Two
3. ✖ Three
4. ✖ Four

Question Number : 3 Question Id : 54592729091 Question Type : MCQ Option Shuffling : Yes
Correct Marks : 1 Wrong Marks : 0.25

यदि SEASONED 'शब्द में अक्षरों को अंग्रेजी वर्णमाला में उसके अगले अक्षर से बदल दिया जाता है तो फिर भी शब्द में कितने स्वर हैं?

Options :

1. ✖ एक
2. ✔ दो
3. ✖ तीन
4. ✖ चार

Question Number : 4 Question Id : 54592729092 Question Type : MCQ Option Shuffling : Yes
Correct Marks : 1 Wrong Marks : 0.25

Find the odd one out from the given alternatives.

Options :

1. ✔ Basketball
2. ✖ Hockey
3. ✖ Football
4. ✖ Cricket

Question Number : 4 Question Id : 54592729092 Question Type : MCQ Option Shuffling : Yes
Correct Marks : 1 Wrong Marks : 0.25

दिए गए विकल्पों में से विषम ज्ञात करें।

Options :

1. ✔ बास्केटबॉल
2. ✖ हॉकी
3. ✖ फुटबॉल
4. ✖ क्रिकेट

Question Number : 5 Question Id : 54592729093 Question Type : MCQ Option Shuffling : Yes
Correct Marks : 1 Wrong Marks : 0.25

Choose the odd one from the given alternatives.

Options :

1. ✖ KIG
2. ✖ SQO
3. ✔ OPL
4. ✖ ECA

Question Number : 5 Question Id : 54592729093 Question Type : MCQ Option Shuffling : Yes
Correct Marks : 1 Wrong Marks : 0.25

दिए गए विकल्पों से भिन्न को चुनें।

Options :

1. ✖ KIG
2. ✖ SQO
3. ✔ OPL
4. ✖ ECA

Question Number : 6 Question Id : 54592729094 Question Type : MCQ Option Shuffling : Yes
Correct Marks : 1 Wrong Marks : 0.25

Choose the odd one from the given alternatives.

Options :

1. ✖ NS : NQ
2. ✔ CH : CE
3. ✖ PU : PS
4. ✖ WB: WZ

Question Number : 6 Question Id : 54592729094 Question Type : MCQ Option Shuffling : Yes
Correct Marks : 1 Wrong Marks : 0.25

दिए गए विकल्पों में से विषम को चुनिए।

Options :

1. ✖ NS : NQ
2. ✔ CH : CE

3. * PU : PS

4. * WB: WZ

Question Number : 7 Question Id : 54592729095 Question Type : MCQ Option Shuffling : Yes
Correct Marks : 1 Wrong Marks : 0.25

In the following question, select the related letter/word/number from the given alternatives.

PAINTING : ARTIST :: Cook : _____

Options :

1. * Singer

2. * Music

3. * Novel

4. ✓ Meal

Question Number : 7 Question Id : 54592729095 Question Type : MCQ Option Shuffling : Yes
Correct Marks : 1 Wrong Marks : 0.25

निम्नलिखित प्रश्न में दिए गए विकल्पों में से सम्बन्धित अक्षर/शब्द/संख्या को चुनिए।

चित्र : कलाकार :: रसोइया : _____

Options :

1. * गायक

2. * संगीत

3. * उपन्यास

4. ✓ भोजन

Question Number : 8 Question Id : 54592729096 Question Type : MCQ Option Shuffling : Yes
Correct Marks : 1 Wrong Marks : 0.25

In the following question, select the related letter/word/number from the given alternatives.

Day : Night ::

Options :

1. * Dim: Weak
2. ✓ Flexible: Stiff
3. * Valiant : mighty
4. * Enhance : Improve

Question Number : 8 Question Id : 54592729096 Question Type : MCQ Option Shuffling : Yes
Correct Marks : 1 Wrong Marks : 0.25

निम्नलिखित प्रश्न में दिए गए विकल्पों में से सम्बन्धित अक्षर/शब्द/संख्या को चुनिए।

दिन : रात ::

Options :

1. * मंद: कमजोर
2. ✓ लचीला: कठोर
3. * मूल्यवान: पराक्रमी
4. * वृद्धि करना: सुधारना

Question Number : 9 Question Id : 54592729097 Question Type : MCQ Option Shuffling : Yes
Correct Marks : 1 Wrong Marks : 0.25

In the following question, select the related letter/word/number from the given alternatives.

GU : FR :: _____

Options :

1. * AC : EP

2. * BG : KZ

3. * JZ : LG

4. ✓ HX : EO

Question Number : 9 Question Id : 54592729097 Question Type : MCQ Option Shuffling : Yes

Correct Marks : 1 Wrong Marks : 0.25

निम्नलिखित प्रश्न में, दिए गए विकल्पों में से संबंधित अक्षर / शब्द / संख्या को चुनिए।

GU : FR :: _____

Options :

1. * AC : EP

2. * BG : KZ

3. * JZ : LG

4. ✓ HX : EO

Question Number : 10 Question Id : 54592729098 Question Type : MCQ Option Shuffling : Yes

Correct Marks : 1 Wrong Marks : 0.25

If 'keyboard' is called 'ink pot', 'ink pot' is called 'window', 'window' is called 'cover', 'cover' is called 'door', 'door' is called 'fan', 'fan' is called 'computer' and 'computer' is called 'printer', which of the following is used for typing?

Options :

1. * Keyboard

2. ✓ Ink pot

3. * Window

4. * Fan

Question Number : 10 Question Id : 54592729098 Question Type : MCQ Option Shuffling : Yes

Correct Marks : 1 Wrong Marks : 0.25

यदि 'कीबोर्ड' को 'इंक पॉट', 'इंक पॉट' को 'खिड़की' कहा जाता है, तो 'खिड़की' को 'कवर', 'कवर' को 'दरवाज़ा', 'दरवाज़े' को 'पंखा', 'पंखे' को 'कंप्यूटर' और 'कंप्यूटर' को 'प्रिंटर' कहा जाता है, टाइपिंग के लिए निम्न में से किसका उपयोग किया जाता है?

Options :

1. * कीबोर्ड
2. ✓ इंक पॉट
3. * खिड़की
4. * पंखा

Question Number : 11 Question Id : 54592729099 Question Type : MCQ Option Shuffling : Yes
Correct Marks : 1 Wrong Marks : 0.25

In a certain code language, 'shi fr pof' means 'Sunrises in east', 'pof mir ot' means 'Health in diet' and 'shi gov om' means 'walk east morning'. Which of the following means 'Sunrises' in that language?

Options :

1. * shi
2. * pof
3. ✓ fr
4. * Either fr or shi

Question Number : 11 Question Id : 54592729099 Question Type : MCQ Option Shuffling : Yes
Correct Marks : 1 Wrong Marks : 0.25

एक निश्चित कूट भाषा में, 'shi fr pof' का अर्थ है 'Sunrises in East', 'pof mir ot' का अर्थ है 'Health in diet' और 'shi gov om' का अर्थ 'walk east morning' है। निम्नलिखित में से किसका अर्थ कूट भाषा में 'Sunrises' है?

Options :

1. ✖ shi

2. ✖ pof

3. ✔ fr

4. ✖ या तो fr या shi

Question Number : 12 Question Id : 54592729100 Question Type : MCQ Option Shuffling : Yes

Correct Marks : 1 Wrong Marks : 0.25

In the following question, a group of letters is given which are numbered 1, 2, 3, 4, 5 and 6. Below are given four alternatives containing combinations of these numbers. Select that combination of numbers so that letters arranged accordingly, form a meaningful word.

O N I J A D

1 2 3 4 5 6

Options :

1. ✖ 4, 6, 3, 5, 2, 1

2. ✔ 5, 6, 4, 1, 3, 2

3. ✖ 4, 6, 5, 2, 3, 1

4. ✖ 5, 2, 3, 1, 6, 4

Question Number : 12 Question Id : 54592729100 Question Type : MCQ Option Shuffling : Yes

Correct Marks : 1 Wrong Marks : 0.25

निम्नलिखित प्रश्न में, अक्षरों का एक समूह दिया गया है , संख्या 1, 2, 3, 4, 5 और 6 नीचे दिए गए हैं, इन संख्याओं के संयोजन वाले चार विकल्प दिए गए हैं। संख्याओं के उस संयोजन का चयन करें ताकि अक्षरों के अनुसार व्यवस्थित हो, एक सार्थक शब्द बनाएं।

O N I J A D

1 2 3 4 5 6

Options :

1. ✖ 4, 6, 3, 5, 2, 1

2. ✔ 5, 6, 4, 1, 3, 2

3. ✖ 4, 6, 5, 2, 3, 1

4. ✖ 5, 2, 3, 1, 6, 4

Question Number : 13 Question Id : 54592729101 Question Type : MCQ Option Shuffling : Yes

Correct Marks : 1 Wrong Marks : 0.25

P, Q, R, S, T and U are sitting in a circle facing the centre. S is between U and Q. P is second to the left of S and second to the right of T, but third left of Q.

Who is facing P?

Options :

1. ✔ Q

2. ✖ S

3. ✖ T

4. ✖ R

Question Number : 13 Question Id : 54592729101 Question Type : MCQ Option Shuffling : Yes

Correct Marks : 1 Wrong Marks : 0.25

P, Q, R, S, T और U एक वृत्त के चारों ओर केन्द्र की ओर मुख करके बैठे हैं। S, U और Q के मध्य में बैठा है: P, S के बाएं से दूसरे स्थान पर बैठा है और T के दाएं से दूसरे स्थान पर लेकिन Q के बाएं से तीसरे स्थान पर बैठा है।

किसका मुख P की ओर है?

Options :

1. ✓ Q
2. ✗ S
3. ✗ T
4. ✗ R

Question Number : 14 Question Id : 54592729102 Question Type : MCQ Option Shuffling : Yes
Correct Marks : 1 Wrong Marks : 0.25

In a groups of 5 friends P, Q, R, S, and T. P is taller than S, R is not taller than T, Q is taller than T and R. S is not taller than T. If it is known that no two of the friends are of the same height, then who among them is that tallest?

Options :

1. ✗ P
2. ✗ Q
3. ✗ R
4. ✓ Cannot be determined

Question Number : 14 Question Id : 54592729102 Question Type : MCQ Option Shuffling : Yes
Correct Marks : 1 Wrong Marks : 0.25

P, Q, R, S और T, 5 दोस्तों के समूह में, P, S से लम्बा है, R, T से लम्बा नहीं है, Q, P से लम्बा है तथा S, T से लम्बा नहीं है। यदि यह ज्ञात है कि दो दोस्तों की लम्बाई समान नहीं है, तब उनमें से सबसे लम्बा कौन है?

Options :

1. * P
2. * Q
3. * R
4. ✓ ज्ञात नहीं किया जा सकता

Question Number : 15 Question Id : 54592729103 Question Type : MCQ Option Shuffling : Yes
Correct Marks : 1 Wrong Marks : 0.25

Six persons A, B, C, D, E, and F each are of different height, are comparing their heights. A is taller than D, but shorter than F. C is shorter than E and taller than B, who is taller than F. Who among the following is the shortest?

Options :

1. * A
2. * B
3. * C
4. ✓ D

Question Number : 15 Question Id : 54592729103 Question Type : MCQ Option Shuffling : Yes
Correct Marks : 1 Wrong Marks : 0.25

छह व्यक्ति A, B, C, D, E, और F प्रत्येक अलग-अलग लम्बाई के हैं, उनकी लम्बाई की तुलना कर रहे हैं। A, D से अधिक लंबा है, लेकिन F से छोटा है। C, E से छोटा है और B से लंबा है, B जो F से लंबा है। निम्नलिखित में से कौन सबसे छोटा है?

Options :

1. ✖ A

2. ✖ B

3. ✖ C

4. ✔ D

Question Number : 16 Question Id : 54592729104 Question Type : MCQ Option Shuffling : Yes

Correct Marks : 1 Wrong Marks : 0.25

From a group of six Men A, B, C, D, E, F and five ladies X, W, V, Y, Z; a team of six is to be selected. Some of the criteria of selection are as follows:

D and E have to be selected together.

Z and F should be selected together.

C cannot be selected with B.

V cannot be selected with Y.

B will be selected with W.

A and Y will be selected together.

If the team consists of only two ladies and V is one of them, the other members are-

Options :

1. ✖ XAFDE

2. ✔ ZCDEF

3. ✖ WBCDE

4. ✖ ZFABD

Question Number : 16 Question Id : 54592729104 Question Type : MCQ Option Shuffling : Yes

Correct Marks : 1 Wrong Marks : 0.25

छः लड़के A, B, C, D, E, और F, पाँच लड़कियों X, W, V, Y, Z के समूह में से छः लोगों की एक टीम का चुनाव होना है। चुनाव की शर्तें निम्न हैं:

D और E को एक साथ चुनना होगा।

Z और F को एक साथ चुना जाना चाहिए।

C को B के साथ नहीं चुना जा सकता है

V को Y के साथ नहीं चुना जा सकता है।

B को W के साथ चुना जाएगा।

A और Y को एक साथ चुना जाएगा।

यदि टीम में केवल दो महिलाएँ हैं और V उनमें से एक है, तो अन्य सदस्य हैं-

Options :

1. * XAFDE

2. ✓ ZCDEF

3. * WBCDE

4. * ZFABD

Question Number : 17 Question Id : 54592729105 Question Type : MCQ Option Shuffling : Yes

Correct Marks : 1 Wrong Marks : 0.25

Raghu is the brother of Amar. Sonam is the sister of Sumeet. Amar is the son of Sonam. How is Raghu related to Sumeet?

Options :

1. * son

2. * brother

3. * father

4. ✓ nephew

Question Number : 17 Question Id : 54592729105 Question Type : MCQ Option Shuffling : Yes

Correct Marks : 1 Wrong Marks : 0.25

रघु, अमर का भाई है। सोनम, सुमीत की बहन है। अमर, सोनम का पुत्र है। रघु, सुमीत से कैसे संबंधित है?

Options :

1. ✗ पुत्र

2. ✗ भाई

3. ✗ पिता

4. ✓ भतीजा

Question Number : 18 Question Id : 54592729106 Question Type : MCQ Option Shuffling : Yes

Correct Marks : 1 Wrong Marks : 0.25

In the question given below, there are given two statements followed by four conclusions numbered I,II,III and IV. You have to take the given statements to be true even if they seem to be at variance from commonly known facts. Read both the conclusions and then decide which of the given conclusions logically follows from the given statement disregarding commonly known facts.

Statements:

- I. Only Hindus are Jains.
- II. Only Sikhs are Hindus.

Conclusions:

- I. All Jains are Hindus.
- II. Some Jains are Hindus.
- III. All Jains are Sikhs.
- IV. All Sikhs are Jains.

Options :

- 1. * Only I and III follow
- 2. * Only I and IV follow
- 3. * Either I or II and III follow
- 4. ✓ I, II and III follow

Question Number : 18 Question Id : 54592729106 Question Type : MCQ Option Shuffling : Yes
Correct Marks : 1 Wrong Marks : 0.25

नीचे दिए गए प्रश्न में दो कथन और उसके बाद चार निष्कर्ष I, II, III और IV दिए गए हैं। आपको दिए गए कथनों को सत्य मानना है, भले ही वे सर्वज्ञात तथ्यों से भिन्न दिखते हों। सभी निष्कर्षों को पढ़िए और फिर तय कीजिए कि दिए गए निष्कर्षों में से कौन-सा निष्कर्ष दिए गए कथनों का तार्किक रूप से अनुसरण करता है, भले ही वह सर्वज्ञात तथ्य से भिन्न हो।

कथन:

- I. केवल हिन्दू, जैन हैं।
- II. केवल सिख, हिन्दू हैं।

निष्कर्ष:

- I. सभी जैन, हिन्दू हैं।
- II. कुछ जैन, हिन्दू हैं।
- III. सभी जैन, सिख हैं।
- IV. सभी सिख, जैन हैं।

Options :

1. * केवल I और III अनुसरण करता है
2. * केवल I और IV अनुसरण करते हैं
3. * या तो I या II और III अनुसरण करते हैं
4. ✓ I, II और III अनुसरण करते हैं

Question Number : 19 Question Id : 54592729107 Question Type : MCQ Option Shuffling : Yes

Correct Marks : 1 Wrong Marks : 0.25

In the following question, there is a statement followed by two courses of action, numbered I and II. You have to assume everything in the statement to be true to decide which of the two suggested courses of action logically follows for pursuing.

Statement:

I. The rape cases are increasing in India.

Course of actions:

I. Girls should be stopped from wearing jeans.

II. Girls should not be allowed to leave houses after 6 PM.

Options :

1. ✖ Only I follows

2. ✖ Only II follows

3. ✖ Either I or II follows

4. ✔ Neither I nor II follows

Question Number : 19 Question Id : 54592729107 Question Type : MCQ Option Shuffling : Yes

Correct Marks : 1 Wrong Marks : 0.25

निम्नलिखित प्रश्न में, एक कथन के बाद दो कार्यवाही । और ॥ है। आपको इस कथन को सत्य मान कर तय करना है की दी गयी दो कार्यवाही में से कौन सा तार्किक रूप से सही है।

कथन:

1. भारत में बलात्कार के मामले बढ़ रहे हैं।

कार्यवाही:

1. लड़कियों को जींस पहनने से रोका जाना चाहिए।

॥. शाम 6 बजे के बाद लड़कियों को घर से बाहर नहीं निकलने देना चाहिए।

Options :

1. * केवल I अनुसरण करता है।

2. * केवल II अनुसरण करता है।

3. * या तो I या II अनुसरण करता है

4. ✓ न तो I और न ही II अनुसरण करता है

Question Number : 20 Question Id : 54592729108 Question Type : MCQ Option Shuffling : Yes

Correct Marks : 1 Wrong Marks : 0.25

Complete the following series.

24, 38, 66, 108, 164, ?

Options :

1. ✓ 234

2. * 238

3. * 228

4. * 236

Question Number : 20 Question Id : 54592729108 Question Type : MCQ Option Shuffling : Yes

Correct Marks : 1 Wrong Marks : 0.25

निम्नलिखित श्रृंखला को पूरा करें।

24, 38, 66, 108, 164, ?

Options :

1. ✓ 234

2. ✗ 238

3. ✗ 228

4. ✗ 236

Mental Ability2

Group Number :	2
Group Id :	5459271442
Group Maximum Duration :	0
Group Minimum Duration :	0
Show Attended Group? :	No
Edit Attended Group? :	No
Break time:	0
Group Marks:	20
Is this Group for Examiner? :	No
Revisit allowed for group Instructions? :	Yes
Maximum Instruction Time:	0
Minimum Instruction Time:	0

Mental Ability2

Section Id :	5459271442
Section Number :	1
Section type :	Online
Mandatory or Optional:	Mandatory
Number of Questions:	20
Number of Questions to be attempted:	20
Section Marks:	20

Sub-Section Number:	1
Sub-Section Id:	5459271730

Question Number : 21 Question Id : 54592729109 Question Type : MCQ Option Shuffling : Yes
Correct Marks : 1 Wrong Marks : 0.25

Find the wrong term in the given series:

10, 13, 18, 24, 34

Options :

1. ✖ 10

2. ✖ 13

3. ✖ 18

4. ✔ 24

Question Number : 21 Question Id : 54592729109 Question Type : MCQ Option Shuffling : Yes
Correct Marks : 1 Wrong Marks : 0.25

दी गई श्रृंखला में गलत शब्द खोजें:

10, 13, 18, 24, 34

Options :

1. ✖ 10

2. ✖ 13

3. ✖ 18

4. ✔ 24

Question Number : 22 Question Id : 54592729110 Question Type : MCQ Option Shuffling : Yes
Correct Marks : 1 Wrong Marks : 0.25

Choose the odd one from the given options:

Options :

1. ✖ 1

2. ✔ 55

3. ✖ 16

4. ✖ 4

Question Number : 22 Question Id : 54592729110 Question Type : MCQ Option Shuffling : Yes
Correct Marks : 1 Wrong Marks : 0.25

दिए गए विकल्पों में से भिन्न संख्या को चुनें।

Options :

1. ✖ 1

2. ✔ 55

3. ✖ 16

4. ✖ 4

Question Number : 23 Question Id : 54592729111 Question Type : MCQ Option Shuffling : Yes
Correct Marks : 1 Wrong Marks : 0.25

Choose the odd numeral pair/group in each of the following questions:

Options :

1. ✖ 72, 81

2. ✖ 144, 156

3. ✖ 54, 63

4. ✔ 45, 24

Question Number : 23 Question Id : 54592729111 Question Type : MCQ Option Shuffling : Yes
Correct Marks : 1 Wrong Marks : 0.25

प्रत्येक निम्नलिखित प्रश्नों में विषम संख्या वाले युग्म / समूह को चुनिए:

Options :

1. ✖ 72, 81

2. ✖ 144, 156

3. ✖ 54, 63

4. ✔ 45, 24

Question Number : 24 Question Id : 54592729112 Question Type : MCQ Option Shuffling : Yes

Correct Marks : 1 Wrong Marks : 0.25

Choose the odd numeral pair/group in each of the following questions:

Options :

1. ✖ 24 : 48 : 36

2. ✖ 32 : 64 : 48

3. ✖ 36 : 72 : 54

4. ✔ 51 : 68 : 34

Question Number : 24 Question Id : 54592729112 Question Type : MCQ Option Shuffling : Yes

Correct Marks : 1 Wrong Marks : 0.25

प्रत्येक निम्नलिखित प्रश्नों में विषम संख्या वाले युग्म / समूह को चुनिए:

Options :

1. ✖ 24 : 48 : 36

2. ✖ 32 : 64 : 48

3. ✖ 36 : 72 : 54

4. ✔ 51 : 68 : 34

Question Number : 25 Question Id : 54592729113 Question Type : MCQ Option Shuffling : Yes

Correct Marks : 1 Wrong Marks : 0.25

In the following question, select the related letter/word/number from the given alternatives.

(21, 34, 56)

Options :

1. ✖ (21, 34, 58)

2. ✖ (33, 36, 44)

3. ✖ (31, 32, 45)

4. ✓ (29, 36, 46)

Question Number : 25 Question Id : 54592729113 Question Type : MCQ Option Shuffling : Yes
Correct Marks : 1 Wrong Marks : 0.25

निम्नलिखित प्रश्न में दिए गए विकल्पों में से सम्बन्धित अक्षर/शब्द/संख्या को चुनिए।

(21, 34, 56)

Options :

1. ✗ (21, 34, 58)
2. ✗ (33, 36, 44)
3. ✗ (31, 32, 45)
4. ✓ (29, 36, 46)

Question Number : 26 Question Id : 54592729114 Question Type : MCQ Option Shuffling : Yes
Correct Marks : 1 Wrong Marks : 0.25

Select the missing number from, the given responses.

43	25	?
21	40	35
35	34	28

Options :

1. ✓ 36
2. ✗ 46
3. ✗ 56
4. ✗ 40

Question Number : 26 Question Id : 54592729114 Question Type : MCQ Option Shuffling : Yes
Correct Marks : 1 Wrong Marks : 0.25

लुप्त संख्या ज्ञात करे?

43	25	?
21	40	35
35	34	28

Options :

1. ✓ 36

2. ✗ 46

3. ✗ 56

4. ✗ 40

Question Number : 27 Question Id : 54592729115 Question Type : MCQ Option Shuffling : Yes

Correct Marks : 1 Wrong Marks : 0.25

If A stands for '+', B stands for '-', C stands for '×', what is the value of:

(25 C 2) A (25 C 1) B 25 ?

Options :

1. ✗ 46

2. ✓ 50

3. ✗ 56

4. ✗ 60

Question Number : 27 Question Id : 54592729115 Question Type : MCQ Option Shuffling : Yes

Correct Marks : 1 Wrong Marks : 0.25

यदि A का अर्थ '+' है, B का अर्थ '-', C का अर्थ '×' तो (25 C

2) A (25 C 1) B 25 का मान ज्ञात करे?

Options :

1. ✗ 46

2. ✓ 50

3. ✗ 56

4. ✗ 60

Question Number : 28 Question Id : 54592729116 Question Type : MCQ Option Shuffling : Yes
Correct Marks : 1 Wrong Marks : 0.25

In the question given below, there is a statement followed by two conclusions. You have to take the given statement to be true even if they seem to be at variance with commonly known facts and then decide which of the given conclusion logically follow(s) from the given statements.

Statements:

I. $G < R \leq I = N$

Conclusions:

I. $G < N$

II. $N = R$

Options :

1. ✗ Neither conclusion I nor conclusion II is true

2. ✗ Either conclusion I or II is true

3. ✗ Only conclusion II is true

4. ✓ Only conclusion I is true

Question Number : 28 Question Id : 54592729116 Question Type : MCQ Option Shuffling : Yes
Correct Marks : 1 Wrong Marks : 0.25

नीचे दिए गए प्रश्न में, एक कथन के बाद दो निष्कर्ष हैं। आपको दिए गए कथन को सत्य मानना है, भले ही वे आम तौर पर ज्ञात तथ्यों के साथ विचरण करते हों और फिर तय करें कि दिए गए कथन में से कौन सा निष्कर्ष तार्किक रूप से अनुसरण करता है।

कथन:

$$I. G < R \leq I = N$$

निष्कर्ष:

$$I. G < N$$

$$II. N = R$$

Options :

1. * न तो निष्कर्ष I और न ही निष्कर्ष II सत्य है
2. * या तो निष्कर्ष I या II सत्य है
3. * केवल निष्कर्ष II सत्य है
4. ✓ केवल निष्कर्ष I सत्य है

Question Number : 29 Question Id : 54592729117 Question Type : MCQ Option Shuffling : Yes
Correct Marks : 1 Wrong Marks : 0.25

Find the wrong term in the given series:

4, 10, 22, 46, 93

Options :

1. ✓ 93
2. * 46
3. * 22
4. * 10

Question Number : 29 Question Id : 54592729117 Question Type : MCQ Option Shuffling : Yes

Correct Marks : 1 Wrong Marks : 0.25

दी गई श्रृंखला में गलत पद ज्ञात करें:

4, 10, 22, 46, 93

Options :

1. ✓ 93

2. ✗ 46

3. ✗ 22

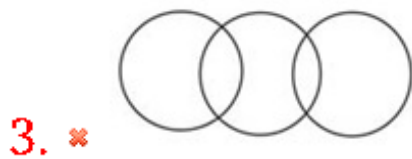

4. ✗ 10

Question Number : 30 Question Id : 54592729118 Question Type : MCQ Option Shuffling : Yes

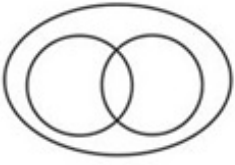
Correct Marks : 1 Wrong Marks : 0.25

Which of the following diagrams best represents a relationship among State, Village and District?

Options :



4. ✖



Question Number : 30 Question Id : 54592729118 Question Type : MCQ Option Shuffling : Yes

Correct Marks : 1 Wrong Marks : 0.25

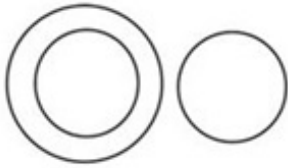
निम्नलिखित में से कौन सा चित्र राज्य, गाँव और जिला के बीच संबंध का प्रतिनिधित्व करता है?

Options :

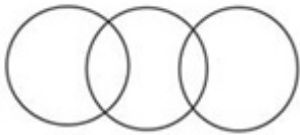
1. ✔



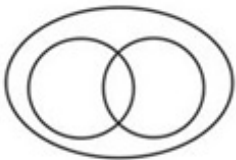
2. ✖



3. ✖



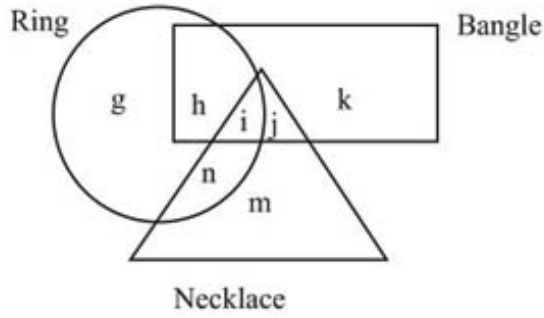
4. ✖



Question Number : 31 Question Id : 54592729119 Question Type : MCQ Option Shuffling : Yes

Correct Marks : 1 Wrong Marks : 0.25

Which of the following characters represent the set of bangles and necklaces, but not the ring?

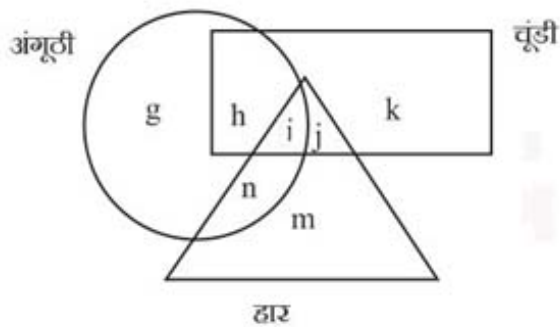


Options :

1. * h
2. * n
3. ✓ j
4. * i

Question Number : 31 Question Id : 54592729119 Question Type : MCQ Option Shuffling : Yes Correct Marks : 1 Wrong Marks : 0.25

निम्नलिखित में से कौन सा अक्षरों चूड़ी और हार के सेट का प्रतिनिधित्व करता है लेकिन अंगूठी का नहीं?



Options :

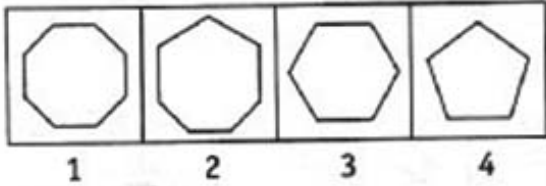
1. * h
2. * n
3. ✓ j

4. ✖ i

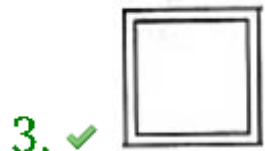
Question Number : 32 Question Id : 54592729120 Question Type : MCQ Option Shuffling : Yes
Correct Marks : 1 Wrong Marks : 0.25

Complete the series by choosing right figure from the given choices.

Problem Figures



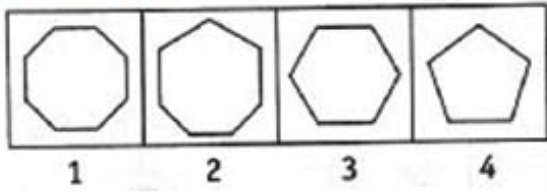
Options :



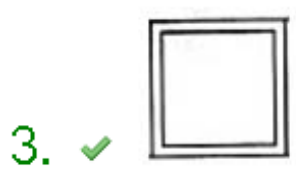
Question Number : 32 Question Id : 54592729120 Question Type : MCQ Option Shuffling : Yes
Correct Marks : 1 Wrong Marks : 0.25

दिए गए विकल्पों में से सही उत्तर चुनकर श्रृंखला को पूरा करें।

प्रश्न आकृति

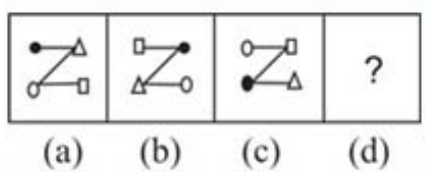


Options :



Question Number : 33 Question Id : 54592729121 Question Type : MCQ Option Shuffling : Yes
 Correct Marks : 1 Wrong Marks : 0.25

Complete the series by choosing right figure from the given choices.

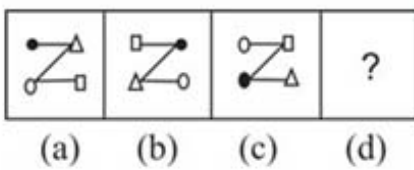


Options :



Question Number : 33 Question Id : 54592729121 Question Type : MCQ Option Shuffling : Yes
Correct Marks : 1 Wrong Marks : 0.25

दिए गए विकल्पों में से सही उत्तर चुनकर श्रृंखला को पूरा करें।











Options :





Question Number : 34 Question Id : 54592729122 Question Type : MCQ Option Shuffling : Yes
 Correct Marks : 1 Wrong Marks : 0.25

Find the missing figure in the given matrix.

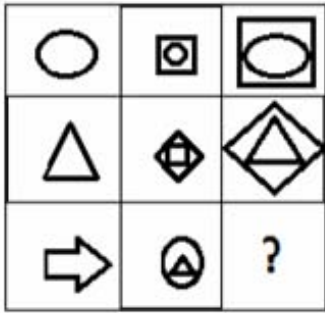
		
		
		?

Options :



Question Number : 34 Question Id : 54592729122 Question Type : MCQ Option Shuffling : Yes
Correct Marks : 1 Wrong Marks : 0.25

दिए गए मैट्रिक्स में लुप्त आकृति ज्ञात कीजिए।



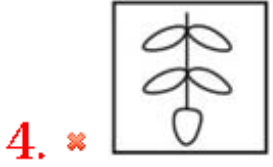
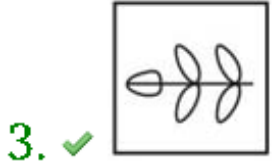
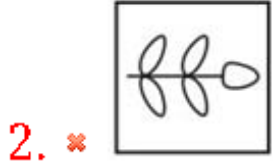
Options :



Question Number : 35 Question Id : 54592729123 Question Type : MCQ Option Shuffling : Yes
Correct Marks : 1 Wrong Marks : 0.25

Three of the four figures are in similarity in some way. You have to choose the figure which is odd /different:

Options :

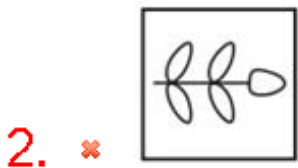


Question Number : 35 Question Id : 54592729123 Question Type : MCQ Option Shuffling : Yes

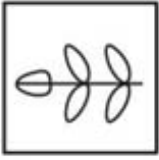
Correct Marks : 1 Wrong Marks : 0.25

आकृतियों में से तीन किसी क्रम या समानता में एक हैं। आपको वह आकृति चुननी होगी जो विषम / भिन्न हो:


Options :



3. ✓

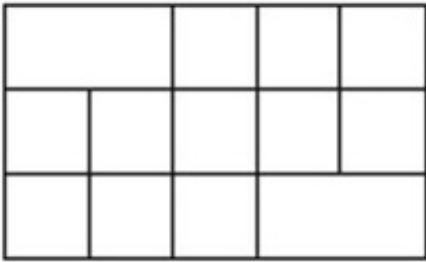


4. ✗



Question Number : 36 Question Id : 54592729124 Question Type : MCQ Option Shuffling : Yes
Correct Marks : 1 Wrong Marks : 0.25

How many Squares are there in the figure given below?



Options :

1. ✗ 10

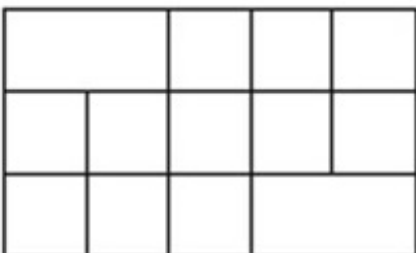
2. ✗ 16

3. ✗ 14

4. ✓ 19

Question Number : 36 Question Id : 54592729124 Question Type : MCQ Option Shuffling : Yes
Correct Marks : 1 Wrong Marks : 0.25

नीचे दी गई आकृति में कितने वर्ग हैं?



Options :

- 1. ✖ 10
- 2. ✖ 16
- 3. ✖ 14
- 4. ✔ 19

Question Number : 37 Question Id : 54592729125 Question Type : MCQ Option Shuffling : Yes
Correct Marks : 1 Wrong Marks : 0.25

From the given three positions of a single dice, find the number at the face opposite to the face having 1 .



Options :

- 1. ✖ 3
- 2. ✖ 5
- 3. ✖ 1
- 4. ✔ 6

Question Number : 37 Question Id : 54592729125 Question Type : MCQ Option Shuffling : Yes
Correct Marks : 1 Wrong Marks : 0.25

एक ही पासा के दिए गए तीन स्थितियों से, 1 के विपरीत फलक पर संख्या ज्ञात कीजिए।



Options :

- 1. ✖ 3
- 2. ✖ 5

3. ✖ 1

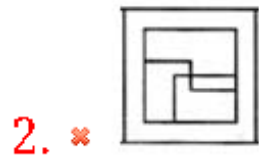
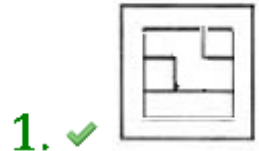
4. ✔ 6

Question Number : 38 Question Id : 54592729126 Question Type : MCQ Option Shuffling : Yes
Correct Marks : 1 Wrong Marks : 0.25

In the given question find the answer figure in which question figure is embedded.



Options :



Question Number : 38 Question Id : 54592729126 Question Type : MCQ Option Shuffling : Yes
Correct Marks : 1 Wrong Marks : 0.25

दिए गए प्रश्न में उत्तर आकृति ज्ञात कीजिए जिसमें प्रश्न आकृति सन्निहित है।



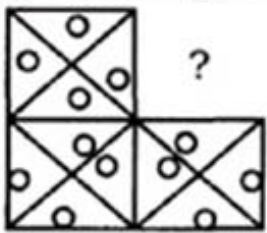
Options :



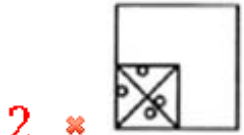
Question Number : 39 Question Id : 54592729127 Question Type : MCQ Option Shuffling : Yes
Correct Marks : 1 Wrong Marks : 0.25

Which answer figure will complete the pattern in the question figure?

Question Figures



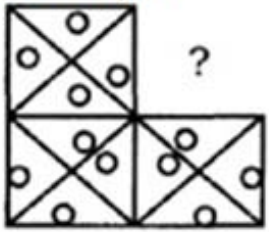
Options :



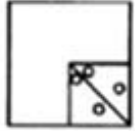
Question Number : 39 Question Id : 54592729127 Question Type : MCQ Option Shuffling : Yes Correct Marks : 1 Wrong Marks : 0.25

कौन-सी उत्तर आकृति प्रश्न आकृति में पैटर्न को पूरा करेगी?

प्रश्न आकृति



Options :



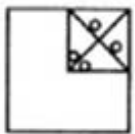
1. ✘



2. ✘



3. ✘

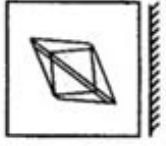


4. ✔

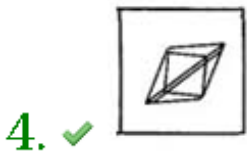
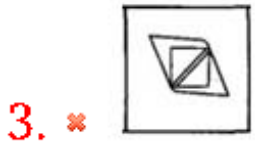
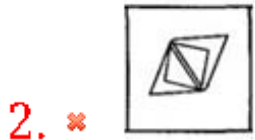
Question Number : 40 Question Id : 54592729128 Question Type : MCQ Option Shuffling : Yes
Correct Marks : 1 Wrong Marks : 0.25

Which of the following choices is the exact mirror image of the main figure.

Main Figure



Options :

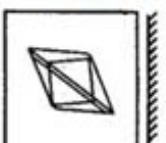


Question Number : 40 Question Id : 54592729128 Question Type : MCQ Option Shuffling : Yes

Correct Marks : 1 Wrong Marks : 0.25

निम्नलिखित में से कौन सा विकल्प मुख्य आकृति की सटीक दर्पण छवि है।

प्रश्न आकृति



Options :



General Awareness1

Group Number :	3
Group Id :	5459271443
Group Maximum Duration :	0
Group Minimum Duration :	0
Show Attended Group? :	No
Edit Attended Group? :	No
Break time:	0
Group Marks:	20
Is this Group for Examiner?:	No
Revisit allowed for group Instructions? :	Yes
Maximum Instruction Time:	0
Minimum Instruction Time:	0

General Awareness1

Section Id :	5459271443
Section Number :	1
Section type :	Online
Mandatory or Optional:	Mandatory
Number of Questions:	20

Number of Questions to be attempted: 20
Section Marks: 20

Sub-Section Number: 1
Sub-Section Id: 5459271731
Question Shuffling Allowed : Yes

Question Number : 41 Question Id : 54592729129 Question Type : MCQ Option Shuffling : Yes
Correct Marks : 1 Wrong Marks : 0.25

From which state does the dance of Kuchipudi originate?

Options :

1. ✓ Andhra Pradesh
2. ✘ Tamil Nadu
3. ✘ Chhattisgarh
4. ✘ Madhya Pradesh

Question Number : 41 Question Id : 54592729129 Question Type : MCQ Option Shuffling : Yes
Correct Marks : 1 Wrong Marks : 0.25

कुचिपुड़ी नृत्य की उत्पत्ति किस राज्य से हुई है?

Options :

1. ✓ आंध्र प्रदेश
2. ✘ तमिलनाडु
3. ✘ छत्तीसगढ़
4. ✘ मध्य प्रदेश

Question Number : 42 Question Id : 54592729130 Question Type : MCQ Option Shuffling : Yes
Correct Marks : 1 Wrong Marks : 0.25

Mudiyettu' is a traditionl folk theatre of which of the following Indian State?

Options :

1. ✘ Tamil Nadu
2. ✘ Karnataka
3. ✘ Andhra Pradesh

4. ✓ Kerala

Question Number : 42 Question Id : 54592729130 Question Type : MCQ Option Shuffling : Yes
Correct Marks : 1 Wrong Marks : 0.25

मुडियेट्टु निम्नलिखित में से किस भारतीय राज्य का पारंपरिक लोक रंगमंच है?

Options :

1. ✖ तमिलनाडु
2. ✖ कर्नाटक
3. ✖ आंध्र प्रदेश
4. ✓ केरल

Question Number : 43 Question Id : 54592729131 Question Type : MCQ Option Shuffling : Yes
Correct Marks : 1 Wrong Marks : 0.25

Which of the following festivals is a major festival in both Nepal and Northern India?

Options :

1. ✓ Teej
2. ✖ Lohri
3. ✖ Pongal
4. ✖ Puthandu

Question Number : 43 Question Id : 54592729131 Question Type : MCQ Option Shuffling : Yes
Correct Marks : 1 Wrong Marks : 0.25

निम्नलिखित में से कौन सा त्योहार नेपाल और उत्तरी भारत दोनों में एक प्रमुख त्योहार है?

Options :

1. ✓ तीज
2. ✖ लोहड़ी
3. ✖ पोंगल

4. * पुथंडू

Question Number : 44 Question Id : 54592729132 Question Type : MCQ Option Shuffling : Yes
Correct Marks : 1 Wrong Marks : 0.25

Which of the following structures is there in the Amer Fort?

Options :

1. ✓ Jai Minar
2. * Shahid Sthal
3. * Vijay Darwaza
4. * Hawa Niwas

Question Number : 44 Question Id : 54592729132 Question Type : MCQ Option Shuffling : Yes
Correct Marks : 1 Wrong Marks : 0.25

आमेर किले में निम्नलिखित में से कौन सी संरचना है?

Options :

1. ✓ जय मीनार
2. * शहीद स्थल
3. * विजय दरवाजा
4. * हवा निवास

Question Number : 45 Question Id : 54592729133 Question Type : MCQ Option Shuffling : Yes
Correct Marks : 1 Wrong Marks : 0.25

Which of the following IDs have been made interchangeable by the Union Budget 2019 for Income Tax Returns?

Options :

1. * PAN Card and Voter ID
2. ✓ Aadhaar and PAN Card
3. * Voter ID and Aadhaar
4. * PAN Card and Ration Card

Question Number : 45 Question Id : 54592729133 Question Type : MCQ Option Shuffling : Yes
Correct Marks : 1 Wrong Marks : 0.25

केंद्रीय बजट 2019 द्वारा आयकर विवरणी (आयकर रिटर्न) के लिए निम्नलिखित में से किस पहचान दस्तावेजों को विनिमेय बनाया गया है?

Options :

1. ✖ पैन कार्ड और मतदाता पहचान पत्र
2. ✔ आधार और पैन कार्ड
3. ✖ मतदाता पहचान पत्र और आधार
4. ✖ पैन कार्ड और राशन कार्ड

Question Number : 46 Question Id : 54592729134 Question Type : MCQ Option Shuffling : Yes

Correct Marks : 1 Wrong Marks : 0.25

Who was first Governor of the Reserve Bank of India?

Options :

1. ✖ A O Hume
2. ✖ Sir James Taylor
3. ✔ Sir Osborne Smith
4. ✖ C R Trevor

Question Number : 46 Question Id : 54592729134 Question Type : MCQ Option Shuffling : Yes

Correct Marks : 1 Wrong Marks : 0.25

भारतीय रिजर्व बैंक के पहले गवर्नर कौन थे?

Options :

1. ✖ ए ओ ह्यूम
2. ✖ सर जेम्स टेलर
3. ✔ सर ओसबोर्न स्मिथ
4. ✖ सी आर ट्रेवर

Question Number : 47 Question Id : 54592729135 Question Type : MCQ Option Shuffling : Yes

Correct Marks : 1 Wrong Marks : 0.25

What is the theme of the Economic Survey 2018-19?

Options :

1. ✖ Of the People, For the People, By the People
2. ✔ Shifting Gears
3. ✖ A Step Towards Financial Inclusion
4. ✖ Digitisation of the Indian Economy

Question Number : 47 Question Id : 54592729135 Question Type : MCQ Option Shuffling : Yes
Correct Marks : 1 Wrong Marks : 0.25

आर्थिक सर्वेक्षण 2018-19 का विषय क्या है?

Options :

1. ✖ लोगों का, लोगों के लिए, लोगों के द्वारा
2. ✔ परिवर्तन का दौर
3. ✖ वित्तीय समावेशन की ओर एक कदम
4. ✖ भारतीय अर्थव्यवस्था का डिजिटलीकरण

Question Number : 48 Question Id : 54592729136 Question Type : MCQ Option Shuffling : Yes
Correct Marks : 1 Wrong Marks : 0.25

How many types of radioactive decay occur in nature?

Options :

1. ✖ 2
2. ✔ 3
3. ✖ 4
4. ✖ 5

Question Number : 48 Question Id : 54592729136 Question Type : MCQ Option Shuffling : Yes
Correct Marks : 1 Wrong Marks : 0.25

प्रकृति में कितने प्रकार के रेडियोएक्टिव क्षय होते हैं?

Options :

1. ✖ 2
2. ✔ 3
3. ✖ 4

4. * 5

Question Number : 49 Question Id : 54592729137 Question Type : MCQ Option Shuffling : Yes
Correct Marks : 1 Wrong Marks : 0.25

Due to which of the following phenomenon does the Sun appear flatter or of oval shape during sunset and sunrise?

Options :

1. * Reflection
2. * Total internal reflection
3. ✓ Refraction
4. * Both Reflection and Total internal reflection

Question Number : 49 Question Id : 54592729137 Question Type : MCQ Option Shuffling : Yes
Correct Marks : 1 Wrong Marks : 0.25

निम्नलिखित में से कौनसी परिघटना के कारण सूर्यास्त तथा सूर्योदय के समय सूर्य अंडाकार आकृति का दिखता है?

Options :

1. * परावर्तन
2. * पूर्ण आंतरिक परावर्तन
3. ✓ अपवर्तन
4. * परावर्तन एवं पूर्ण आंतरिक परावर्तन दोनों ही

Question Number : 50 Question Id : 54592729138 Question Type : MCQ Option Shuffling : Yes
Correct Marks : 1 Wrong Marks : 0.25

If a pinch of baking soda is added to a teaspoonful of vinegar, then (i)___ gas is released. If the gas is passed through freshly prepared lime water, then the lime water turns (ii)___.

Options :

1. * (i) Hydrogen (ii) blue
2. ✓ (i) Carbon dioxide (ii) milky
3. * (i) Methane (ii) yellow

4. * (i) Carbon monoxide (ii) green

Question Number : 50 Question Id : 54592729138 Question Type : MCQ Option Shuffling : Yes
Correct Marks : 1 Wrong Marks : 0.25

यदि चुटकी भर खाने का सोडा एक चम्मच सिरका में मिला दिया जाए, तो (i)___ गैस निकलती है। यदि इस गैस को ताजे बने चूने के पानी से गुजार दिया जाए तो चूने का पानी (ii)___ हो जाता है।

Options :

1. * (i) हाइड्रोजन (ii) नीला
2. ✓ (i) कार्बन डाइऑक्साइड (ii) दूधिया
3. * (i) मीथेन (ii) पीला
4. * (i) कार्बन मोनोऑक्साइड (ii) हरा

Question Number : 51 Question Id : 54592729139 Question Type : MCQ Option Shuffling : Yes
Correct Marks : 1 Wrong Marks : 0.25

In (i)___, glucose is converted into (ii)___ in the final step.

Options :

1. * (i) Transpiration (ii) Sugar
2. ✓ (i) Glycolysis (ii) Pyruvic acid
3. * (i) Respiration (ii) Carbon monoxide
4. * (i) Digestion (ii) Water

Question Number : 51 Question Id : 54592729139 Question Type : MCQ Option Shuffling : Yes
Correct Marks : 1 Wrong Marks : 0.25

(i)___ के अंतिम चरण में ग्लूकोज (ii)___ में परिवर्तित हो जाते हैं।

Options :

1. * (i) वाष्पोत्सर्जन (ii) चीनी
2. ✓ (i) ग्लाइकोलिसिस (ii) पाइरुविक अम्ल
3. * (i) श्वसन (ii) कार्बन मोनोऑक्साइड
4. * (i) पाचन (ii) जल

Question Number : 52 Question Id : 54592729140 Question Type : MCQ Option Shuffling : Yes

Correct Marks : 1 Wrong Marks : 0.25

Which of the following is known as the 'lungs of the Earth'?

Options :

1. ✓ Amazon Rainforest
2. ✗ The Himalayan Biosphere
3. ✗ The Savannah Forests
4. ✗ The Alps

Question Number : 52 Question Id : 54592729140 Question Type : MCQ Option Shuffling : Yes

Correct Marks : 1 Wrong Marks : 0.25

निम्नलिखित में से किसको 'पृथ्वी के फेफड़ों' के नाम से जाना जाता है?

Options :

1. ✓ अमेज़न वर्षा-वन
2. ✗ हिमालयी संरक्षित जैवमंडल
3. ✗ सावान्ना के जंगल
4. ✗ ऐल्प्स

Question Number : 53 Question Id : 54592729141 Question Type : MCQ Option Shuffling : Yes

Correct Marks : 1 Wrong Marks : 0.25

In Biology, dendrites, axon and nucleus are part of a _____.

Options :

1. ✓ Neuron
2. ✗ Human-heart
3. ✗ Blood
4. ✗ Kidney

Question Number : 53 Question Id : 54592729141 Question Type : MCQ Option Shuffling : Yes

Correct Marks : 1 Wrong Marks : 0.25

जीव-विज्ञान में द्रुमिका, तंत्रिकाक्ष और केन्द्रक _____ के अंग हैं।

Options :

1. ✓ तंत्रिका कोशिका

2. * मानव हृदय

3. * रक्त

4. * गुर्दा

Question Number : 54 Question Id : 54592729142 Question Type : MCQ Option Shuffling : Yes
Correct Marks : 1 Wrong Marks : 0.25

Which of the following is a micronutrient supplied by soil?

Options :

1. * Nitrogen

2. * Calcium

3. ✓ Iron

4. * Sulphur

Question Number : 54 Question Id : 54592729142 Question Type : MCQ Option Shuffling : Yes
Correct Marks : 1 Wrong Marks : 0.25

निम्नलिखित में से कौनसा सूक्ष्म पोषक मृदा से प्राप्त किया जा सकता है?

Options :

1. * नाइट्रोजन

2. * कैल्शियम

3. ✓ आयरन

4. * सल्फर

Question Number : 55 Question Id : 54592729143 Question Type : MCQ Option Shuffling : Yes
Correct Marks : 1 Wrong Marks : 0.25

Who out of the following will not be at risk to contract AIDS?

Options :

1. * Individuals who require repeated blood transfusions

2. * Drug addicts who take drugs intravenously

3. ✖ Children born to HIV infected mothers

4. ✔ Persons working with HIV infected persons in office

Question Number : 55 Question Id : 54592729143 Question Type : MCQ Option Shuffling : Yes

Correct Marks : 1 Wrong Marks : 0.25

निम्नलिखित में से कौन एड्स संक्रमण के लिए जोखिम में नहीं होगा?

Options :

1. ✖ ऐसे व्यक्ति जिन्ही बार-बार रक्त-आधान की ज़रूरत होती है

2. ✖ मादक द्रव्य व्यसनी जो अतःशिरा ड्रग लेते हैं

3. ✖ एचआईवी-संक्रमित माँ से जन्मे बच्चे

4. ✔ कार्यालय में एचआईवी-संक्रमित व्यक्तियों के साथ काम करने वाले व्यक्ति

Question Number : 56 Question Id : 54592729144 Question Type : MCQ Option Shuffling : Yes

Correct Marks : 1 Wrong Marks : 0.25

Which of the following is not a property exhibited by the Himalayan Mountains?

Options :

1. ✖ Young in age

2. ✖ Landforms like gorges and V-shaped valleys

3. ✖ Water structures like rapids and waterfalls

4. ✔ Rigid and stable geological structure

Question Number : 56 Question Id : 54592729144 Question Type : MCQ Option Shuffling : Yes

Correct Marks : 1 Wrong Marks : 0.25

निम्नलिखित में से कौनसा हिमालय पर्वत द्वारा प्रदर्शित विशेषता नहीं है?

Options :

1. ✖ युवा अवस्था में

2. ✖ भूआकृतियाँ जैसे गार्ज और वी-आकार की घाटियाँ

3. ✖ पानी की संरचनाएँ जैसे क्षिप्रिकाएँ और जल - प्रपात

4. ✔ कठोर और स्थिर भूगर्भीय संरचना

Question Number : 57 Question Id : 54592729145 Question Type : MCQ Option Shuffling : Yes

Correct Marks : 1 Wrong Marks : 0.25

Why does the North Sea record higher salinity despite being in higher latitudes?

Options :

1. ✖ It receives water from the melted glaciers

2. ✔ It receives water brought by the North Atlantic Drift

3. ✖ It records very high rates of evaporation

4. ✖ It is highly polluted

Question Number : 57 Question Id : 54592729145 Question Type : MCQ Option Shuffling : Yes

Correct Marks : 1 Wrong Marks : 0.25

उत्तरी समुद्र ,उच्च अक्षांशों में होने के बावजूद उच्च लवणता क्यों रिकार्ड करता है?

Options :

1. ✖ यह पिघले हुए हिमनदों से पानी प्राप्त करता है

2. ✔ यह उत्तरी अटलांटिक प्रवाह द्वारा लाया गया पानी प्राप्त करता है

3. ✖ यह वाष्पीकरण की बहुत उच्च दर दर्ज करता है

4. ✖ यह अत्यधिक प्रदूषित है

Question Number : 58 Question Id : 54592729146 Question Type : MCQ Option Shuffling : Yes

Correct Marks : 1 Wrong Marks : 0.25

Which of the following means new alluvium?

Options :

1. ✖ Bhabar

2. ✔ Khadar

3. * Bhangar

4. * Kankar

Question Number : 58 Question Id : 54592729146 Question Type : MCQ Option Shuffling : Yes

Correct Marks : 1 Wrong Marks : 0.25

नए जलोढ़ का मतलब निम्नलिखित में से कौन सा है?

Options :

1. * भाबर

2. ✓ खादर

3. * भांगर

4. * कंकर

Question Number : 59 Question Id : 54592729147 Question Type : MCQ Option Shuffling : Yes

Correct Marks : 1 Wrong Marks : 0.25

Which of the following crops can restore soil fertility and how?

Options :

1. * Rice, by retaining the moisture in the soil

2. * Wheat, by adding the organic nutrients in the soil

3. ✓ Pulses, by fixing nitrogen from the air

4. * Millets, by adding phosphorus into the soil

Question Number : 59 Question Id : 54592729147 Question Type : MCQ Option Shuffling : Yes

Correct Marks : 1 Wrong Marks : 0.25

निम्नलिखित में से कौन सी फसल मिट्टी की उर्वरता को बहाल कर सकती है और कैसे?

Options :

1. * चावल, मिट्टी में नमी को बनाए रखकर

2. * गेहूं, मिट्टी में कार्बनिक पोषक तत्वों को जोड़कर

3. ✓ दालें, वायु से नाइट्रोजन का नियतन

4. * बाजरा, फॉस्फोरस को मिट्टी में मिलाकर

Question Number : 60 Question Id : 54592729148 Question Type : MCQ Option Shuffling : Yes
Correct Marks : 1 Wrong Marks : 0.25

With reference to the growth of population in India which of the following is correctly matched?

Options :

1. * 1901-1921 : period of steady population growth of India's population
2. * 1921-1951 : period of stagnant or stationary phase of growth of India's population
3. * 1951-1981 : period of increase in mortality rate in India
4. ✓ 1981- present : period of gradual slowdown of population growth rate of India

Question Number : 60 Question Id : 54592729148 Question Type : MCQ Option Shuffling : Yes
Correct Marks : 1 Wrong Marks : 0.25

भारत में जनसंख्या की वृद्धि के संदर्भ में निम्नलिखित में से कौन सा मिलान सही है?

Options :

1. * 1901-1921: भारत की जनसंख्या की वृद्धि की रुद्ध अथवा स्थिर प्रावस्था
2. * 1921-1951: भारत की जनसंख्या की स्थिर वृद्धि की अवधि
3. * 1951-1981: भारत में मृत्यु दर में वृद्धि की अवधि
4. ✓ 1981- वर्तमान: भारत की जनसंख्या वृद्धि दर में मंद गति से घटने की अवधि

General Awareness2

Group Maximum Duration :	0
Group Minimum Duration :	0
Show Attended Group? :	No
Edit Attended Group? :	No
Break time:	0
Group Marks:	20
Is this Group for Examiner?:	No
Revisit allowed for group Instructions? :	Yes
Maximum Instruction Time:	0
Minimum Instruction Time:	0

General Awareness2

Section Id :	5459271444
Section Number :	1
Section type :	Online
Mandatory or Optional:	Mandatory
Number of Questions:	20
Number of Questions to be attempted:	20
Section Marks:	20

Sub-Section Number:	1
Sub-Section Id:	5459271732
Question Shuffling Allowed :	Yes

Question Number : 61 Question Id : 54592729149 Question Type : MCQ Option Shuffling : Yes
Correct Marks : 1 Wrong Marks : 0.25

Which of the following are not fresh water lakes?

Options :

1. * Dal Lake and Deepor Beel
2. * Wular Lake and Dal Lake
3. ✓ Pangong Tso and Tso Moriri Lakes
4. * Pangong Tso and Deepor Beel

Question Number : 61 Question Id : 54592729149 Question Type : MCQ Option Shuffling : Yes
Correct Marks : 1 Wrong Marks : 0.25

निम्नलिखित में से कौन सी ताज़े पानी की झीलें नहीं हैं?

Options :

1. * डल झील और दीपोर बील
2. * वुलर झील और डल झील

3. ✓ पेंगोंग त्सो और त्सो मोरीरी झीलें

4. ✘ पेंगोंग त्सो और डीपोर बील

Question Number : 62 Question Id : 54592729150 Question Type : MCQ Option Shuffling : Yes

Correct Marks : 1 Wrong Marks : 0.25

Which of the following are sacrifices that were performed during the Vedic period?

Options :

1. ✓ Rajasuya and Ashvamedha

2. ✘ Ashvamedha and Kutagarashala

3. ✘ Kutagarashala and Rajasuya

4. ✘ Rajasuya, Ashvamedha and Kutagarashala

Question Number : 62 Question Id : 54592729150 Question Type : MCQ Option Shuffling : Yes

Correct Marks : 1 Wrong Marks : 0.25

निम्नलिखित में से कौन से यज्ञ वैदिक काल के दौरान किए गए थे?

Options :

1. ✓ राजसूय और अश्वमेध

2. ✘ अश्वमेध और कुटगारशाला

3. ✘ कुटगारशाला और राजसूय

4. ✘ राजसूय, अश्वमेध और कुटगारशाला

Question Number : 63 Question Id : 54592729151 Question Type : MCQ Option Shuffling : Yes

Correct Marks : 1 Wrong Marks : 0.25

The Buddhist texts suggest that the Mauryas were (i)___, but the Brahmanical texts described them as being of (ii)___.

Options :

1. ✘ (i) Kshatriyas (ii) Brahmanical caste

2. ✘ (i) of low caste (ii) Kshatriya caste

3. ✓ (i) Kshatriyas (ii) low caste

4. ✘ (i) Brahmans (ii) low caste

Question Number : 63 Question Id : 54592729151 Question Type : MCQ Option Shuffling : Yes

Correct Marks : 1 Wrong Marks : 0.25

बौद्ध ग्रंथ बताते हैं कि मौर्य (i) ____ थे, लेकिन ब्राह्मण ग्रंथों ने उन्हें (ii) ____ के रूप में वर्णित किया।

Options :

1. * (i) क्षत्रिय (ii) ब्राह्मणवादी जाति
2. * (i) निम्न जाति के (ii) क्षत्रिय जाति
3. ✓ (i) क्षत्रिय (ii) निम्न जाति
4. * (i) ब्रह्मण (ii) निम्न जाति

Question Number : 64 Question Id : 54592729152 Question Type : MCQ Option Shuffling : Yes

Correct Marks : 1 Wrong Marks : 0.25

Which of the following Delhi Sultans and their ruling periods are correctly matched?

Options :

1. * Jalaluddin Khalji : 1270-1276
2. ✓ Ghiyasuddin Tughlaq : 1320-1324
3. * Ghiyasuddin Balban : 1236-1240
4. * Bahlol Lodhi : 1414-1421

Question Number : 64 Question Id : 54592729152 Question Type : MCQ Option Shuffling : Yes

Correct Marks : 1 Wrong Marks : 0.25

निम्नलिखित में से किस दिल्ली सुल्तान और उनके शासन काल का सही मिलान किया गया है?

Options :

1. * जलालुद्दीन खिलजी: 1270-1276
2. ✓ गियासुद्दीन तुगलक: 1320-1324
3. * गियासुद्दीन बलबन: 1236-1240
4. * बहलोल लोधी: 1414-1421

Question Number : 65 Question Id : 54592729153 Question Type : MCQ Option Shuffling : Yes

Correct Marks : 1 Wrong Marks : 0.25

(i)___ introduced a new policy of governance called (ii)_____.

Options :

1. * (i) Jehangir (ii) sulh-i kul
2. ✓ (i) Akbar (ii) sulh-i-kul
3. * (i) Jehangir (ii) Din-e-illahi
4. * (i) Akbar (ii) Din-e-illahi

Question Number : 65 Question Id : 54592729153 Question Type : MCQ Option Shuffling : Yes

Correct Marks : 1 Wrong Marks : 0.25

(i) _____ ने (ii) _____ नामक शासन की एक नई नीति शुरू की।

Options :

1. * (i) जहांगीर (ii) सुलह-इ-कुल
2. ✓ (i) अकबर (ii) सुलह-इ-कुल
3. * (i) जहांगीर (ii) दीन-ए-इलाही
4. * (i) अकबर (ii) दीन-ए-इलाही

Question Number : 66 Question Id : 54592729154 Question Type : MCQ Option Shuffling : Yes

Correct Marks : 1 Wrong Marks : 0.25

In which year was the first English factory set up in India?

Options :

1. ✓ 1651
2. * 1653
3. * 1655
4. * 1657

Question Number : 66 Question Id : 54592729154 Question Type : MCQ Option Shuffling : Yes

Correct Marks : 1 Wrong Marks : 0.25

भारत में पहला अंग्रेजी कारखाना किस वर्ष स्थापित किया गया था?

Options :

1. ✓ 1651

2. ✗ 1653

3. ✗ 1655

4. ✗ 1657

Question Number : 67 Question Id : 54592729155 Question Type : MCQ Option Shuffling : Yes

Correct Marks : 1 Wrong Marks : 0.25

The Doctrine of Lapse was introduced in which year?

Options :

1. ✗ 1846

2. ✓ 1848

3. ✗ 1850

4. ✗ 1860

Question Number : 67 Question Id : 54592729155 Question Type : MCQ Option Shuffling : Yes

Correct Marks : 1 Wrong Marks : 0.25

हड़प नीति का सिद्धांत किस वर्ष में प्रस्तावित किया गया था?

Options :

1. ✗ 1846

2. ✓ 1848

3. ✗ 1850

4. ✗ 1860

Question Number : 68 Question Id : 54592729156 Question Type : MCQ Option Shuffling : Yes

Correct Marks : 1 Wrong Marks : 0.25

Which Indian state does MC Mary Kom hail from?

Options :

1. ✗ Nagaland

2. ✗ Assam

3. ✓ Manipur

4. * Meghalaya

Question Number : 68 Question Id : 54592729156 Question Type : MCQ Option Shuffling : Yes
Correct Marks : 1 Wrong Marks : 0.25

एम. सी. मैरी कॉम किस भारतीय राज्य से है?

Options :

1. * नागालैंड
2. * असम
3. ✓ मणिपुर
4. * मेघालय

Question Number : 69 Question Id : 54592729157 Question Type : MCQ Option Shuffling : Yes
Correct Marks : 1 Wrong Marks : 0.25

Who out of the following has won the International Booker Prize 2019?

Options :

1. ✓ Marilyn Booth
2. * Olga Tokarczuk
3. * David Grossman
4. * Han Kang

Question Number : 69 Question Id : 54592729157 Question Type : MCQ Option Shuffling : Yes
Correct Marks : 1 Wrong Marks : 0.25

निम्नलिखित में से किसने अंतर्राष्ट्रीय बुकर पुरस्कार 2019 जीता है?

Options :

1. ✓ मर्लिन बूथ
2. * ओल्गा टोकरचुक
3. * डेविड ग्रॉसमैन
4. * हैन केंग

Question Number : 70 Question Id : 54592729158 Question Type : MCQ Option Shuffling : Yes
Correct Marks : 1 Wrong Marks : 0.25

Who is the author of the book “One Indian Girl”?

Options :

1. ✖ Vikram Seth
2. ✔ Chetan Bhagat
3. ✖ Jhumpa Lahiri
4. ✖ Arvind Adiga

Question Number : 70 Question Id : 54592729158 Question Type : MCQ Option Shuffling : Yes
Correct Marks : 1 Wrong Marks : 0.25

"वन इंडियन गर्ल" पुस्तक के लेखक कौन हैं?

Options :

1. ✖ विक्रम सेठ
2. ✔ चेतन भगत
3. ✖ झुम्पा लाहिड़ी
4. ✖ अरविंद अडिगा

Question Number : 71 Question Id : 54592729159 Question Type : MCQ Option Shuffling : Yes
Correct Marks : 1 Wrong Marks : 0.25

In which year was the World Bank Group established?

Options :

1. ✖ 1942
2. ✔ 1944
3. ✖ 1946
4. ✖ 1948

Question Number : 71 Question Id : 54592729159 Question Type : MCQ Option Shuffling : Yes
Correct Marks : 1 Wrong Marks : 0.25

विश्व बैंक समूह की स्थापना किस वर्ष की गई थी?

Options :

1. ✖ 1942
2. ✔ 1944

3. ✖ 1946

4. ✖ 1948

Question Number : 72 Question Id : 54592729160 Question Type : MCQ Option Shuffling : Yes

Correct Marks : 1 Wrong Marks : 0.25

Who out of the following is known for the discovery of cancer therapy?

Options :

1. ✔ James P. Allison

2. ✖ Denis Mukwege

3. ✖ Frances H. Arnold

4. ✖ George P. Smith

Question Number : 72 Question Id : 54592729160 Question Type : MCQ Option Shuffling : Yes

Correct Marks : 1 Wrong Marks : 0.25

निम्न में से किसे कैंसर थेरेपी की खोज के लिए जाना जाता है?

Options :

1. ✔ जेम्स बी. एलिसन

2. ✖ डेनिस मुक्वेगे

3. ✖ फ्रांसिस एच. अर्नोल्ड

4. ✖ जॉर्ज पी. स्मिथ

Question Number : 73 Question Id : 54592729161 Question Type : MCQ Option Shuffling : Yes

Correct Marks : 1 Wrong Marks : 0.25

James Watt is known for the invention of _____.

Options :

1. ✖ Television

2. ✖ Telephone

3. ✔ Steam Engine

4. ✖ Spinning wheel

Question Number : 73 Question Id : 54592729161 Question Type : MCQ Option Shuffling : Yes
Correct Marks : 1 Wrong Marks : 0.25

जेम्स वाट को किस के आविष्कार के लिए जाना जाता है?

Options :

1. * टेलीविजन
2. * टेलीफोन
3. ✓ वाष्प यंत्र
4. * चरखा

Question Number : 74 Question Id : 54592729162 Question Type : MCQ Option Shuffling : Yes
Correct Marks : 1 Wrong Marks : 0.25

Which article of Indian Constituion associate sikkim with the union?

Options :

1. * Article 3A
2. * Article 3
3. ✓ Article 2A
4. * Article 1A

Question Number : 74 Question Id : 54592729162 Question Type : MCQ Option Shuffling : Yes
Correct Marks : 1 Wrong Marks : 0.25

भारतीय संविधान के किस अनुच्छेद के तहत सिक्किम को संघ से जोड़ा गया?

Options :

1. * अनुच्छेद 3A
2. * अनुच्छेद 3
3. ✓ अनुच्छेद 2A
4. * अनुच्छेद 1A

Question Number : 75 Question Id : 54592729163 Question Type : MCQ Option Shuffling : Yes
Correct Marks : 1 Wrong Marks : 0.25

The (i)____ Emergency under the Article (ii)____ has never been declared in India so far.

Options :

1. ✖ (i) Presidential (ii) 352
2. ✔ (i) Financial (ii) 360
3. ✖ (i) Presidential (ii) 356
4. ✖ (i) Financial (ii) 352

Question Number : 75 Question Id : 54592729163 Question Type : MCQ Option Shuffling : Yes
Correct Marks : 1 Wrong Marks : 0.25

भारत में (i) _____ आपातकाल (ii) _____ अनुच्छेद के तहत कभी भी घोषित नहीं किया गया है।

Options :

1. ✖ (i) राष्ट्रपति (ii) 352
2. ✔ (i) वित्तीय (ii) 360
3. ✖ (i) राष्ट्रपति (ii) 356
4. ✖ (i) वित्तीय (ii) 352

Question Number : 76 Question Id : 54592729164 Question Type : MCQ Option Shuffling : Yes
Correct Marks : 1 Wrong Marks : 0.25

Which part of Indian Constitution tells about election?

Options :

1. ✔ Part XV
2. ✖ Part V
3. ✖ Part XI
4. ✖ Part XIV

Question Number : 76 Question Id : 54592729164 Question Type : MCQ Option Shuffling : Yes
Correct Marks : 1 Wrong Marks : 0.25

भारतीय संविधान का कौन सा भाग चुनाव के बारे में बताता है?

Options :

1. ✓ भाग XV

2. ✘ भाग V

3. ✘ भाग XI

4. ✘ भाग XIV

Question Number : 77 Question Id : 54592729165 Question Type : MCQ Option Shuffling : Yes
Correct Marks : 1 Wrong Marks : 0.25

In the constitution assembly who among the following made an aggressive plea to use hindi language for making constitution?

Options :

1. ✘ N.G. Ranga

2. ✓ R.V. Dhulekar

3. ✘ Govind Ballabh Pant

4. ✘ Rajendra Prasad

Question Number : 77 Question Id : 54592729165 Question Type : MCQ Option Shuffling : Yes
Correct Marks : 1 Wrong Marks : 0.25

संविधान सभा में निम्नलिखित में से किसने संविधान बनाने के लिए हिंदी भाषा का उपयोग करने के लिए एक आक्रामक दलील दी थी?

Options :

1. ✘ एन.जी. रंगा

2. ✓ आर.वी. धुलेकर

3. ✘ गोविंद बल्लभ पंत

4. ✘ राजेन्द्र प्रसाद

Question Number : 78 Question Id : 54592729166 Question Type : MCQ Option Shuffling : Yes
Correct Marks : 1 Wrong Marks : 0.25

Who was the captain of the Indian ODI Cricket Team, when India had won the World Cup in 1983?

Options :

1. * Sunil Gavaskar
2. * Mahinder Amarnath
3. * Roger Binny
4. ✓ Kapil Dev

Question Number : 78 Question Id : 54592729166 Question Type : MCQ Option Shuffling : Yes

Correct Marks : 1 Wrong Marks : 0.25

भारतीय एक दिवसीय क्रिकेट टीम के कप्तान कौन थे, जब भारत ने 1983 में विश्व कप जीता था?

Options :

1. * सुनील गावस्कर
2. * महिंदर अमरनाथ
3. * रोजर बिन्नी
4. ✓ कपिल देव

Question Number : 79 Question Id : 54592729167 Question Type : MCQ Option Shuffling : Yes

Correct Marks : 1 Wrong Marks : 0.25

Which of the following cricketers have the record of highest batting average in Test Matches?

Options :

1. * Sachin Tendulkar
2. ✓ Don Bradman
3. * Adam Voges
4. * Sir Garfield Sobers

Question Number : 79 Question Id : 54592729167 Question Type : MCQ Option Shuffling : Yes

Correct Marks : 1 Wrong Marks : 0.25

निम्नलिखित क्रिकेटर्स में से किस बल्लेबाज़ का नाम टेस्ट मैचों में सबसे अधिक औसत बल्लेबाजी के रिकॉर्ड में शामिल है?

Options :

1. * सचिन तेंदुलकर
2. ✓ डॉन ब्रैडमैन
3. * एडम वोग्स
4. * सर गारफील्ड सोबर्स

Question Number : 80 Question Id : 54592729168 Question Type : MCQ Option Shuffling : Yes
Correct Marks : 1 Wrong Marks : 0.25

With which sports is Rahul Chaudhari related to?

Options :

1. * Kho Kho
2. * Mallakhamb
3. ✓ Kabaddi
4. * Hockey

Question Number : 80 Question Id : 54592729168 Question Type : MCQ Option Shuffling : Yes
Correct Marks : 1 Wrong Marks : 0.25

राहुल चौधरी किस खेल से संबंधित हैं?

Options :

1. * खो खो
2. * मल्लखंभ
3. ✓ कबड्डी
4. * हॉकी

Arithmetic Ability1

Group Number :	5
Group Id :	5459271445
Group Maximum Duration :	0
Group Minimum Duration :	0
Show Attended Group? :	No
Edit Attended Group? :	No
Break time:	0
Group Marks:	20

Is this Group for Examiner?:	No
Revisit allowed for group Instructions? :	Yes
Maximum Instruction Time:	0
Minimum Instruction Time:	0

Arithmetic Ability1

Section Id :	5459271445
Section Number :	1
Section type :	Online
Mandatory or Optional:	Mandatory
Number of Questions:	20
Number of Questions to be attempted:	20
Section Marks:	20

Sub-Section Number:	1
Sub-Section Id:	5459271733
Question Shuffling Allowed :	Yes

Question Number : 81 Question Id : 54592729169 Question Type : MCQ Option Shuffling : Yes
Correct Marks : 1 Wrong Marks : 0.25

What should come in place of the question mark (?) in the following question?

$$1111.1 + 111.11 + 11.111 = ?$$

Options :

1. ✖ 1232.231

2. ✖ 1233.123

3. ✖ 1332.331

4. ✔ 1233.321

Question Number : 81 Question Id : 54592729169 Question Type : MCQ Option Shuffling : Yes
Correct Marks : 1 Wrong Marks : 0.25

निम्नलिखित प्रश्न में प्रश्नवाचक चिन्ह (?) के स्थान पर क्या आना चाहिए?

$$1111.1 + 111.11 + 11.111 = ?$$

Options :

1. ✖ 1232.231
2. ✖ 1233.123
3. ✖ 1332.331
4. ✔ 1233. 321

Question Number : 82 Question Id : 54592729170 Question Type : MCQ Option Shuffling : Yes
Correct Marks : 1 Wrong Marks : 0.25

What should come in place of the question mark (?) in the following question?

$$\frac{0.216 + 0.008}{0.36 - 0.12 + 0.04} = ?$$

Options :

1. ✖ 0.3
2. ✖ 0.5
3. ✔ 0.8
4. ✖ 0.9

Question Number : 82 Question Id : 54592729170 Question Type : MCQ Option Shuffling : Yes
Correct Marks : 1 Wrong Marks : 0.25

निम्नलिखित प्रश्न में प्रश्नवाचक चिन्ह (?) के स्थान पर क्या आना चाहिए?

$$\frac{0.216 + 0.008}{0.36 - 0.12 + 0.04} = ?$$

Options :

1. ✖ 0.3
2. ✖ 0.5
3. ✔ 0.8

4. ✖ 0.9

Question Number : 83 Question Id : 54592729171 Question Type : MCQ Option Shuffling : Yes
Correct Marks : 1 Wrong Marks : 0.25

What should come in place of the question mark (?) in the following question?

$$\frac{5}{11} \text{ of } \frac{4}{5} \text{ of } \frac{11}{16} \text{ of } 848 = ?$$

Options :

1. ✖ 216

2. ✖ 222

3. ✖ 208

4. ✔ 212

Question Number : 83 Question Id : 54592729171 Question Type : MCQ Option Shuffling : Yes
Correct Marks : 1 Wrong Marks : 0.25

निम्नलिखित प्रश्न में प्रश्नवाचक चिन्ह (?) के स्थान पर क्या आना चाहिए?

$$848 \text{ का } \frac{11}{16} \text{ का } \frac{4}{5} \text{ का } \frac{5}{11} = ?$$

Options :

1. ✖ 216

2. ✖ 222

3. ✖ 208

4. ✔ 212

Question Number : 84 Question Id : 54592729172 Question Type : MCQ Option Shuffling : Yes
Correct Marks : 1 Wrong Marks : 0.25

What approximate value will come in place of the question mark?

$$\frac{4}{5} \times \frac{3}{7} \div \frac{6}{7} \div \frac{5}{9} = ?$$

Options :

1. ✘ $\frac{9}{17}$

2. ✘ $\frac{20}{49}$

3. ✔ $\frac{18}{25}$

4. ✘ $\frac{1}{2}$

Question Number : 84 Question Id : 54592729172 Question Type : MCQ Option Shuffling : Yes

Correct Marks : 1 Wrong Marks : 0.25

निम्नलिखित प्रश्न में प्रश्नवाचक चिन्ह (?) के स्थान पर क्या आना चाहिए?

$$\frac{4}{5} \times \frac{3}{7} \div \frac{6}{7} \div \frac{5}{9} = ?$$

Options :

1. ✘ $\frac{9}{17}$

2. ✘ $\frac{20}{49}$

3. ✓ $\frac{18}{25}$

4. ✗ $\frac{1}{2}$

Question Number : 85 Question Id : 54592729173 Question Type : MCQ Option Shuffling : Yes
Correct Marks : 1 Wrong Marks : 0.25

What should come in place of the question mark (?) in the following question?

$$3960 \div 24 \times 392 \div 14 = ?$$

Options :

1. ✗ 4305

2. ✗ 193

3. ✓ 4620

4. ✗ 2310

Question Number : 85 Question Id : 54592729173 Question Type : MCQ Option Shuffling : Yes
Correct Marks : 1 Wrong Marks : 0.25

निम्नलिखित प्रश्न में प्रश्नवाचक चिन्ह (?) के स्थान पर क्या आना चाहिए?

$$3960 \div 24 \times 392 \div 14 = ?$$

Options :

1. ✗ 4305

2. ✗ 193

3. ✓ 4620

4. ✗ 2310

Question Number : 86 Question Id : 54592729174 Question Type : MCQ Option Shuffling : Yes

Correct Marks : 1 Wrong Marks : 0.25

What should come in place of the question mark (?) in the following question?

$$93 \times 812 \div 273 = (3)?$$

Note: For this question, discrepancy is found in question/answer. So, this question is ignored for all candidates.

Options :

1. 3

2. 4

3. 5

4. 6

Question Number : 86 Question Id : 54592729174 Question Type : MCQ Option Shuffling : Yes

Correct Marks : 1 Wrong Marks : 0.25

निम्नलिखित प्रश्न में प्रश्नवाचक चिन्ह (?) के स्थान पर क्या आना चाहिए?

$$93 \times 812 \div 273 = (3)?$$

Note: For this question, discrepancy is found in question/answer. So, this question is ignored for all candidates.

Options :

1. 3

2. 4

3. 5

4. 6

Question Number : 87 Question Id : 54592729175 Question Type : MCQ Option Shuffling : Yes

Correct Marks : 1 Wrong Marks : 0.25

The L.C.M. and ratio of three numbers are 690 and 2 : 3 : 5 respectively. Find the sum of largest and smallest numbers.

Options :

- 1. ✖ 346
- 2. ✖ 146
- 3. ✔ 161
- 4. ✖ 321

Question Number : 87 Question Id : 54592729175 Question Type : MCQ Option Shuffling : Yes

Correct Marks : 1 Wrong Marks : 0.25

तीन संख्याओं का ल.स. तथा अनुपात क्रमशः 690 और 2: 3: 5 है। सबसे बड़ी और सबसे छोटी संख्या का योगफल ज्ञात कीजिए।

Options :

- 1. ✖ 346
- 2. ✖ 146
- 3. ✔ 161
- 4. ✖ 321

Question Number : 88 Question Id : 54592729176 Question Type : MCQ Option Shuffling : Yes

Correct Marks : 1 Wrong Marks : 0.25

The H.C.F. and L.C.M. of two numbers are 30 and 600 respectively. If the first number is divided by 2, the quotient is 60. Then find the second number.

Options :

- 1. ✖ 50
- 2. ✖ 100
- 3. ✔ 150
- 4. ✖ 250

Question Number : 88 Question Id : 54592729176 Question Type : MCQ Option Shuffling : Yes

Correct Marks : 1 Wrong Marks : 0.25

दो संख्याओं का म.स. तथा ल.स. क्रमशः 30 और 600 है। यदि पहली संख्या को 2 से विभाजित किया जाए तो भागफल 60 है तो दूसरी संख्या ज्ञात कीजिए।

Options :

1. ✖ 50
2. ✖ 100
3. ✔ 150
4. ✖ 250

Question Number : 89 Question Id : 54592729177 Question Type : MCQ Option Shuffling : Yes
Correct Marks : 1 Wrong Marks : 0.25

Find the least natural number to be subtracted from 5160 so that the result is always divisible by 13.

Options :

1. ✔ 12
2. ✖ 16
3. ✖ 59
4. ✖ 29

Question Number : 89 Question Id : 54592729177 Question Type : MCQ Option Shuffling : Yes
Correct Marks : 1 Wrong Marks : 0.25

वह छोटी से छोटी संख्या ज्ञात कीजिये जिसे 5160 में से घटाने पर परिणाम हमेशा 13 से विभाजित हो?

Options :

1. ✔ 12
2. ✖ 16
3. ✖ 59
4. ✖ 29

Question Number : 90 Question Id : 54592729178 Question Type : MCQ Option Shuffling : Yes
Correct Marks : 1 Wrong Marks : 0.25

Which of the following numbers is divisible by both 33 and 2?

Options :

1. ✖ 3732
2. ✔ 5280
3. ✖ 4120
4. ✖ 5242

Question Number : 90 Question Id : 54592729178 Question Type : MCQ Option Shuffling : Yes
Correct Marks : 1 Wrong Marks : 0.25

निम्नलिखित में से कौन सी संख्या 33 और 2 दोनों से विभाजित है?

Options :

1. ✖ 3732
2. ✔ 5280
3. ✖ 4120
4. ✖ 5242

Question Number : 91 Question Id : 54592729179 Question Type : MCQ Option Shuffling : Yes
Correct Marks : 1 Wrong Marks : 0.25

There are four brands shirts available in a shop. The number of shirt of brand A, B, C and D is 40, 60, 55 and 27 respectively. The shopkeeper sold 65 percent of brand A, 83.33 percent of brand B, 60 percent of brand C and all the shirts of brand D. What is the average number of shirt per brand sold by shopkeeper?

Options :

1. ✖ 31
2. ✖ 32
3. ✔ 34
4. ✖ 39

Question Number : 91 Question Id : 54592729179 Question Type : MCQ Option Shuffling : Yes

Correct Marks : 1 Wrong Marks : 0.25

एक दुकान में चार ब्रांड की शर्ट उपलब्ध हैं। ब्रांड A, B, C और D की शर्ट की संख्या क्रमशः 40, 60, 55 और 27 है। दुकानदार ने ब्रांड A की 65 प्रतिशत, ब्रांड B की 83.33 प्रतिशत, ब्रांड C की 60 प्रतिशत और ब्रांड D की सभी शर्ट को बेच दिया। दुकानदार द्वारा बेची गई प्रति ब्रांड शर्ट की औसत संख्या कितनी है?

Options :

1. ✖ 31

2. ✖ 32

3. ✔ 34

4. ✖ 39

Question Number : 92 Question Id : 54592729180 Question Type : MCQ Option Shuffling : Yes

Correct Marks : 1 Wrong Marks : 0.25

In a school, the number of boys is 150 percent of the number of girls. The average weight of the class is 58 kg. The ratio of average weight of girls to boys is 7 : 5. What is the average weight of boys?

Options :

1. ✔ 50kg

2. ✖ 45kg

3. ✖ 40kg

4. ✖ 30kg

Question Number : 92 Question Id : 54592729180 Question Type : MCQ Option Shuffling : Yes

Correct Marks : 1 Wrong Marks : 0.25

एक स्कूल में, लड़कों की संख्या लड़कियों की संख्या का 150 प्रतिशत है। कक्षा का औसत वजन 58 किलोग्राम है। लड़कियों के औसत वजन और लड़कों के औसत वजन का अनुपात 7: 5 है। लड़कों का औसत वजन कितना है?

Options :

1. ✓ 50 किलोग्राम
2. ✗ 45 किलोग्राम
3. ✗ 40 किलोग्राम
4. ✗ 30 किलोग्राम

Question Number : 93 Question Id : 54592729181 Question Type : MCQ Option Shuffling : Yes

Correct Marks : 1 Wrong Marks : 0.25

The marked price of a car is Rs.P. A person bought the car at 18 percent discount due to December sale and additional 10 percent discount due to cash payment. After that he spent 5 percent of the purchased price on the accessories. If he spent overall Rs.619920. What is the marked price of the car?

Options :

1. ✓ Rs.8,00,000
2. ✗ Rs.7,60,000
3. ✗ Rs.9,00,000
4. ✗ Rs.8,50,000

Question Number : 93 Question Id : 54592729181 Question Type : MCQ Option Shuffling : Yes

Correct Marks : 1 Wrong Marks : 0.25

एक कार का अंकित मूल्य रु.P है। एक व्यक्ति ने दिसंबर बिक्री के कारण कार को 18 प्रतिशत की छूट पर और नकद भुगतान के कारण अतिरिक्त 10 प्रतिशत छूट पर खरीदा। उसके बाद उसने सहायक उपकरण पर खरीदी गई कीमत का 5 प्रतिशत खर्च किया। यदि उसने कुल रु.619920 खर्च किये, कार अंकित मूल्य क्या है?

Options :

1. ✓ ₹.8,00,000
2. ✗ ₹.7,60,000
3. ✗ ₹.9,00,000
4. ✗ ₹.8,50,000

Question Number : 94 Question Id : 54592729182 Question Type : MCQ Option Shuffling : Yes

Correct Marks : 1 Wrong Marks : 0.25

The expectation of Priyanka for getting marks in her exam was 65 percent. On the day of result, she surprised because her score was 507 marks which was 120 percent of her expectation. What were the maximum marks of exam?

Options :

1. ✓ 650
2. ✗ 750
3. ✗ 500
4. ✗ 540

Question Number : 94 Question Id : 54592729182 Question Type : MCQ Option Shuffling : Yes

Correct Marks : 1 Wrong Marks : 0.25

अपनी परीक्षा में अंक पाने की प्रियंका की उम्मीद 65 प्रतिशत थी। परिणाम के दिन, उसने आश्चर्यचकित किया क्योंकि उसका स्कोर 507 अंक था जो उसकी अपेक्षा का 120 प्रतिशत था। परीक्षा के अधिकतम अंक क्या थे?

Options :

1. ✓ 650
2. ✗ 750
3. ✗ 500
4. ✗ 540

Question Number : 95 Question Id : 54592729183 Question Type : MCQ Option Shuffling : Yes
Correct Marks : 1 Wrong Marks : 0.25

A salesman gets commission on the total sales at 12 percent. If the sale is exceed Rs.15000 he gets an additional bonus of 5 percent on the excess of sales over Rs.15000. if he gets total commission of Rs.2208, then what is the bonus he receives?

Options :

1. ✗ Rs.212
2. ✓ Rs.120
3. ✗ Rs.75
4. ✗ Rs.180

Question Number : 95 Question Id : 54592729183 Question Type : MCQ Option Shuffling : Yes
Correct Marks : 1 Wrong Marks : 0.25

एक विक्रेता को कुल बिक्री पर कमीशन 12 प्रतिशत मिलता है। यदि बिक्री रु.15000 से अधिक है, तो उसे रु.15000 से अधिक की बिक्री पर 5 प्रतिशत का अतिरिक्त बोनस मिलता है। यदि उसे कुल रु.2208 का कमीशन मिलता है, तो उसे मिलने वाला बोनस क्या है?

Options :

1. ✗ रु.212
2. ✓ रु.120
3. ✗ रु.75
4. ✗ रु.180

Question Number : 96 Question Id : 54592729184 Question Type : MCQ Option Shuffling : Yes

Correct Marks : 1 Wrong Marks : 0.25

In an office there are 2600 employees. On Monday only 9 percent of male employees were absent. On Tuesday only 22 percent of female employees were absent. If employees present in the office on Monday and Tuesday were same. Then the number of female employees in the office is:

Options :

1. ✓ 1400

2. ✗ 1500

3. ✗ 1200

4. ✗ 1600

Question Number : 96 Question Id : 54592729184 Question Type : MCQ Option Shuffling : Yes

Correct Marks : 1 Wrong Marks : 0.25

एक कार्यालय में 2600 कर्मचारी हैं। सोमवार को केवल 9 प्रतिशत पुरुष कर्मचारी अनुपस्थित थे। मंगलवार को केवल 22 प्रतिशत महिला कर्मचारी अनुपस्थित थीं। यदि सोमवार और मंगलवार को कार्यालय में उपस्थित कर्मचारी समान थे। तब कार्यालय में महिला कर्मचारियों की संख्या है।

Options :

1. ✓ 1400

2. ✗ 1500

3. ✗ 1200

4. ✗ 1600

Question Number : 97 Question Id : 54592729185 Question Type : MCQ Option Shuffling : Yes

Correct Marks : 1 Wrong Marks : 0.25

The selling prices of two headphones are equal. One sold at a profit of 62.5% and other at a loss of $3\frac{19}{27}$ % loss. On the whole there is a profit of Rs.630. Find the cost price of the headphone on which there is a profit.

Options :

1. * Rs.950
2. * Rs.1080
3. ✓ Rs.1120
4. * Rs.880

Question Number : 97 Question Id : 54592729185 Question Type : MCQ Option Shuffling : Yes

Correct Marks : 1 Wrong Marks : 0.25

दो हेडफोन की विक्रय मूल्य समान हैं। एक 62.5% के लाभ पर और दूसरा $3\frac{19}{27}$ % के नुकसान पर बिका। दोनों पर रु.630 का लाभ है। हेडफोन की लागत मूल्य जात कीजिए जिस पर लाभ है।

Options :

1. * ₹.950
2. * ₹.1080
3. ✓ ₹.1120
4. * ₹.880

Question Number : 98 Question Id : 54592729186 Question Type : MCQ Option Shuffling : Yes

Correct Marks : 1 Wrong Marks : 0.25

Ramesh bought three old computers for Rs.6000, Rs.7500 and Rs.7200. He spent 15 percent, 12 percent and 10 percent of the respective cost price on their repairing. He marked up the computers at 50 percent, 40 percent and 25 percent above the respective original cost prices. If sells all the computers at 10 percent discount, then what is the profit percent of Ramesh?

Options :

1. * 18.42 percent
2. * 19.11 percent

3. ✓ 20.23 percent

4. ✗ 24 percent

Question Number : 98 Question Id : 54592729186 Question Type : MCQ Option Shuffling : Yes

Correct Marks : 1 Wrong Marks : 0.25

रमेश ने तीन पुराने कंप्यूटरों को ₹.6000, ₹.7500 और ₹.7200 में खरीदा। उसने मरम्मत पर संबंधित लागत मूल्य का क्रमशः 15 प्रतिशत, 12 प्रतिशत और 10 प्रतिशत खर्च किया। उसने कंप्यूटरों को संबंधित मूल लागत मूल्य से 50 प्रतिशत, 40 प्रतिशत और 25 प्रतिशत ऊपर अंकित किया। यदि सभी कंप्यूटरों को 10 प्रतिशत छूट पर बेचता है, तो रमेश का लाभ प्रतिशत क्या है?

Options :

1. ✗ 18.42 प्रतिशत

2. ✗ 19.11 प्रतिशत

3. ✓ 20.23 प्रतिशत

4. ✗ 24 प्रतिशत

Question Number : 99 Question Id : 54592729187 Question Type : MCQ Option Shuffling : Yes

Correct Marks : 1 Wrong Marks : 0.25

An overall profit of 25.875 percent is to be made from sale of two products. One of them was sold at a loss of 11 percent. At what profit percentage should the second product be sold, given that the selling price of first and second products are in the ratio 267 : 740.

Options :

1. ✗ 42 percent

2. ✗ 60 percent

3. ✗ 38 percent

4. ✓ 48 percent

Question Number : 99 Question Id : 54592729187 Question Type : MCQ Option Shuffling : Yes

Correct Marks : 1 Wrong Marks : 0.25

25.875 प्रतिशत का कुल लाभ दो उत्पादों की बिक्री से किया जाना है। उनमें से एक को 11 प्रतिशत की हानि पर बेचा गया था। दूसरे उत्पाद को किस लाभ प्रतिशत पर बेचा जाना चाहिए, यदि पहले और दूसरे उत्पादों की बिक्री मूल्य 267: 740 के अनुपात में है।

Options :

1. ✖ 42 प्रतिशत
2. ✖ 60 प्रतिशत
3. ✖ 38 प्रतिशत
4. ✔ 48 प्रतिशत

Question Number : 100 Question Id : 54592729188 Question Type : MCQ Option Shuffling : Yes

Correct Marks : 1 Wrong Marks : 0.25

The ratio of money with Amitabh and Amir is in the ratio 9 : 4. Amitabh divides 40 percent of his money to Abhishek and Aashutoshin in the ratio 17 : 12. What is the total amount with the four if the share of Abhishek is Rs.11016?

Note: For this question, discrepancy is found in question/answer. So, this question is ignored for all candidates.

Options :

1. Rs.65481
2. Rs.52416
3. Rs.67680
4. Rs.75842

Question Number : 100 Question Id : 54592729188 Question Type : MCQ Option Shuffling : Yes

Correct Marks : 1 Wrong Marks : 0.25

अमिताभ और आमिर के पास पैसे का अनुपात 9: 4 में है। अमिताभ ने अभिषेक और आशुतोष के लिए अपने पैसे का 40 प्रतिशत, 17: 12 के अनुपात में बांटा। अभिषेक का शेयर रु.11016 है, चारों के साथ कुल राशि क्या है?

Note: For this question, discrepancy is found in question/answer. So, this question is ignored for all candidates.

Options :

1. रु.65481
2. रु.52416
3. रु.67680
4. रु.75842

Arithmetic Ability2

Group Number :	6
Group Id :	5459271446
Group Maximum Duration :	0
Group Minimum Duration :	0
Show Attended Group? :	No
Edit Attended Group? :	No
Break time:	0
Group Marks:	20
Is this Group for Examiner?:	No
Revisit allowed for group Instructions? :	Yes
Maximum Instruction Time:	0
Minimum Instruction Time:	0

Arithmetic Ability2

Section Id :	5459271446
Section Number :	1
Section type :	Online
Mandatory or Optional:	Mandatory
Number of Questions:	20
Number of Questions to be attempted:	20
Section Marks:	20

Sub-Section Id:

5459271734

Question Shuffling Allowed :

Yes

Question Number : 101 Question Id : 54592729189 Question Type : MCQ Option Shuffling : Yes

Correct Marks : 1 Wrong Marks : 0.25

The ratio of present ages of Vaibhav and Pankaj is 11 : 12. Eight years ago, the ratio of 75 percent of Vaibhav's age to two-third of Pankaj's age was 81 : 80. Five years from now, what will be the ratio of ages of Vaibhav's to that of Pankaj's?

Options :

1. ✖ 17 : 18

2. ✖ 24 : 29

3. ✔ 49 : 53

4. ✖ 36 : 41

Question Number : 101 Question Id : 54592729189 Question Type : MCQ Option Shuffling : Yes

Correct Marks : 1 Wrong Marks : 0.25

वैभव और पंकज की वर्तमान आयु का अनुपात 11 : 12 है। आठ साल पहले, वैभव की उम्र का 75 प्रतिशत और पंकज की उम्र का दो-तिहाई का अनुपात 80 : 81 था। अब से पाँच साल बाद, वैभव की आयु का और पंकज की आयु का अनुपात क्या होगा?

Options :

1. ✖ 17 : 18

2. ✖ 24 : 29

3. ✔ 49 : 53

4. ✖ 36 : 41

Question Number : 102 Question Id : 54592729190 Question Type : MCQ Option Shuffling : Yes

Correct Marks : 1 Wrong Marks : 0.25

Four numbers are in the ratio $14 : 8 : 3 : 9$. If 4 and 1 are subtracted from the first and second numbers while 8 and 5 are added to the third and fourth numbers respectively, they will be in proportion. What is the sum of second and third numbers?

Options :

1. ✖ $11/3$

2. ✖ $7/4$

3. ✔ $11/2$

4. ✖ $16/5$

Question Number : 102 Question Id : 54592729190 Question Type : MCQ Option Shuffling : Yes

Correct Marks : 1 Wrong Marks : 0.25

चार संख्याएँ $14: 8: 3: 9$ के अनुपात में हैं। यदि 4 और 1 को पहले और दूसरे संख्या से घटाया जाता है जबकि 8 और 5 को क्रमशः तीसरे और चौथे संख्या में जोड़ा जाता है, तो वे समानुपात में होंगे। दूसरे और तीसरे संख्या का योग क्या है?

Options :

1. ✖ $11/3$

2. ✖ $7/4$

3. ✔ $11/2$

4. ✖ $16/5$

Question Number : 103 Question Id : 54592729191 Question Type : MCQ Option Shuffling : Yes

Correct Marks : 1 Wrong Marks : 0.25

Anand invested Rs.18000 on simple interest at 7 percent per annum for ten years. Bharat invested Rs.P on compound interest compounded annually at 10 percent per annum for two years. The interest received by Anand is 250 percent more than the interest received by Bharat. What is the value of P?

Options :

1. * Rs.16452.69
2. ✓ Rs.17142.85
3. * Rs.12568.44
4. * Rs.20145.12

Question Number : 103 Question Id : 54592729191 Question Type : MCQ Option Shuffling : Yes

Correct Marks : 1 Wrong Marks : 0.25

आनंद ने दस साल के लिए प्रति वर्ष 7 प्रतिशत की दर से साधारण ब्याज पर रु .18000 का निवेश किया। भरत ने दो साल के लिए 10 प्रतिशत प्रतिवर्ष की दर से चक्रवृद्धि ब्याज (वार्षिक गणना) पर रु.P का निवेश किया। आनंद को मिलने वाला ब्याज भरत को मिलने वाले ब्याज से 250 प्रतिशत अधिक है। P का मान क्या है?

Options :

1. * रु.16452.69
2. ✓ रु.17142.85
3. * रु.12568.44
4. * रु.20145.12

Question Number : 104 Question Id : 54592729192 Question Type : MCQ Option Shuffling : Yes

Correct Marks : 1 Wrong Marks : 0.25

A sum of Rs.72000 is lent to two persons P and Q. The money lent to P on simple interest at 8 percent per annum for three years and the money lent to Q on simple interest at 7 percent per annum for four years. At the end of corresponding periods, interest accrued on the two parts together is Rs.19440. What is the money lent to P?

Options :

1. ✓ Rs.18000
2. ✗ Rs.24000
3. ✗ Rs.54000
4. ✗ Rs.27000

Question Number : 104 Question Id : 54592729192 Question Type : MCQ Option Shuffling : Yes

Correct Marks : 1 Wrong Marks : 0.25

₹.72000 की राशि दो व्यक्तियों को P और Q को उधार दी जाती है। P को तीन साल के लिए 8 प्रतिशत प्रति वर्ष की दर से साधारण ब्याज पर उधार दी जाती है और चार साल के लिए 7 प्रतिशत प्रति वर्ष पर साधारण ब्याज पर Q को पैसा दिया जाता है। इसी अवधि के अंत में, दो भागों पर एक साथ अर्जित ब्याज ₹.19440 है। P को उधार दिया गया धन क्या है?

Options :

1. ✓ ₹.18000
2. ✗ ₹.24000
3. ✗ ₹.54000
4. ✗ ₹.27000

Question Number : 105 Question Id : 54592729193 Question Type : MCQ Option Shuffling : Yes

Correct Marks : 1 Wrong Marks : 0.25

The compound interest on a certain sum at 13 percent per annum compounded annually for two years is Rs.4042.74. Find the simple interest on same sum at same rate of interest for 8 years.

Options :

1. * Rs.12754
2. * Rs.13565
3. * Rs.13962
4. ✓ Rs.15184

Question Number : 105 Question Id : 54592729193 Question Type : MCQ Option Shuffling : Yes

Correct Marks : 1 Wrong Marks : 0.25

दो साल के लिए निश्चित राशि पर 13 प्रतिशत प्रति वर्ष वार्षिक गणना पर चक्रवृद्धि ब्याज रु.4042.74 है। 8 वर्ष के लिए समान ब्याज दर पर समान राशि पर साधारण ब्याज ज्ञात कीजिए।

Options :

1. * रु.12754
2. * रु.13565
3. * रु.13962
4. ✓ रु.15184

Question Number : 106 Question Id : 54592729194 Question Type : MCQ Option Shuffling : Yes

Correct Marks : 1 Wrong Marks : 0.25

A man travelled from the village to the bus stop at the rate of 15 km/hr and walked back at the rate of 4 km/hr. If the whole journey took 3 hours 48 minutes, find the distance of the bus stop from the village?

Options :

1. * 15 km
2. * 20 km

3. ✓ 12 km

4. ✗ 24 km

Question Number : 106 Question Id : 54592729194 Question Type : MCQ Option Shuffling : Yes

Correct Marks : 1 Wrong Marks : 0.25

एक व्यक्ति ने गांव से बस स्टॉप की यात्रा 15 कि.मी./घंटा की दर से तय की और 4 कि.मी./घंटा की दर से वापस आया। यदि पूरी यात्रा के में 3 घंटे 48 मिनट लगे हो, तो उस गांव से बस स्टॉप की दूरी ज्ञात करें?

Options :

1. ✗ 15 km

2. ✗ 20 km

3. ✓ 12 km

4. ✗ 24 km

Question Number : 107 Question Id : 54592729195 Question Type : MCQ Option Shuffling : Yes

Correct Marks : 1 Wrong Marks : 0.25

A person covers a total distance x in the following manner. He covers the first one-third of the distance at 50 kmph, 40 percent of the remaining at 40 kmph and the remaining distance at 60 kmph. If he covers a total distance of 330 km, find his average speed over the entire journey.

Options :

1. ✗ 48km/hour

2. ✓ 50 km/hour

3. ✗ 52 km/hour

4. ✗ 56km/hour

Question Number : 107 Question Id : 54592729195 Question Type : MCQ Option Shuffling : Yes

Correct Marks : 1 Wrong Marks : 0.25

एक व्यक्ति निम्नलिखित प्रकार से कुल दूरी x को तय करता है। वह 50 किमी प्रति घंटे की दूरी पर पहले एक तिहाई, 40 किमी प्रति घंटे पर शेष का 40 प्रतिशत और शेष दूरी 60 किमी प्रति घंटे की दूरी तय करता है। यदि वह 330 किमी की कुल दूरी तय करता है, तो पूरी यात्रा में उसकी औसत गति ज्ञात करें।

Options :

1. ✖ 48 किमी/घंटा
2. ✔ 50 किमी/घंटा
3. ✖ 52 किमी/घंटा
4. ✖ 56 किमी/घंटा

Question Number : 108 Question Id : 54592729196 Question Type : MCQ Option Shuffling : Yes

Correct Marks : 1 Wrong Marks : 0.25

Kajal was going to college at speed of $\frac{5}{6}$ of his regular speed. But he reached college 3 minutes late with this speed. Find the regular time taken to reach the college by Kajal.

Options :

1. ✔ 15 min
2. ✖ 17 min
3. ✖ 21 min
4. ✖ 30 min

Question Number : 108 Question Id : 54592729196 Question Type : MCQ Option Shuffling : Yes

Correct Marks : 1 Wrong Marks : 0.25

काजल उसकी वास्तविक गति के $\frac{5}{6}$ से कॉलेज जा रही था। लेकिन, वह इस गति से कॉलेज 3 मिनट की देरी से पहुँचती है। काजल द्वारा कॉलेज पहुँचने में लिया जाने वाला वास्तविक समय है?

Options :

1. ✓ 15

मिनट

2. ✖ 17

मिनट

3. ✖ 21

मिनट

4. ✖ 30

मिनट

Question Number : 109 Question Id : 54592729197 Question Type : MCQ Option Shuffling : Yes

Correct Marks : 1 Wrong Marks : 0.25

Anand, Bhanu and Chandra can complete a work in 4 days. Anand and Chandra alone can do the same work in 8 and 16 days respectively. How many days will Bhanu alone take to complete the same work?

Options :

1. ✓ 16

2. ✖ 20

3. ✖ 8

4. ✖ 12

Question Number : 109 Question Id : 54592729197 Question Type : MCQ Option Shuffling : Yes

Correct Marks : 1 Wrong Marks : 0.25

आनंद, भानु और चंद्रा 4 दिनों में किसी कार्य पूरा कर सकते हैं। आनंद और चंद्रा क्रमशः 8 और 16 दिनों में उसी कार्य को अकेले पूरा कर सकते हैं। उसी कार्य को पूरा करने में भानु को अकेले कितने दिन लगेंगे?

Options :

1. ✓ 16

2. * 20

3. * 8

4. * 12

Question Number : 110 Question Id : 54592729198 Question Type : MCQ Option Shuffling : Yes
Correct Marks : 1 Wrong Marks : 0.25

A, working alone, takes 80 days more than the time taken by A and B working together to complete the work. B, working alone, takes 20 days more than the time taken by A and B working together to complete the work. Find the time taken by A alone to complete the work.

Options :

1. * 40 days

2. * 60 days

3. ✓ 120 days

4. * 160 days

Question Number : 110 Question Id : 54592729198 Question Type : MCQ Option Shuffling : Yes
Correct Marks : 1 Wrong Marks : 0.25

A, अकेले काम करते हुए A और B द्वारा काम पूरा करने में लगने वाले समय की तुलना में 80 दिन अधिक लेता है। B, अकेले काम करते हुए A और B द्वारा काम पूरा करने में लगने वाले समय से 20 दिन अधिक लेता है। कार्य को पूरा करने के लिए A द्वारा लिया गया समय बताये।

Options :

1. * 40 दिन

2. * 60 दिन

3. ✓ 120 दिन

4. * 160 दिन

Question Number : 111 Question Id : 54592729199 Question Type : MCQ Option Shuffling : Yes
Correct Marks : 1 Wrong Marks : 0.25

A and B can complete a work in 10 days and 20 days respectively. If they work on alternate days, then find the least number of days in which the work will be completed.

Options :

1. * 13.2 days
2. ✓ 13 days
3. * 13.5 days
4. * 15 days

Question Number : 111 Question Id : 54592729199 Question Type : MCQ Option Shuffling : Yes
Correct Marks : 1 Wrong Marks : 0.25

A और B क्रमशः 10 दिनों और 20 दिनों में एक काम पूरा कर सकते हैं। यदि वे वैकल्पिक दिनों में काम करते हैं, तो कम से कम उन दिनों की संख्या ज्ञात करें जिनमें काम पूरा हो जाएगा।

Options :

1. * 13.2 दिन
2. ✓ 13 दिन
3. * 13.5 दिन
4. * 15 दिन

Question Number : 112 Question Id : 54592729200 Question Type : MCQ Option Shuffling : Yes
Correct Marks : 1 Wrong Marks : 0.25

A circular wire of diameter 14 cm is bent in the form of a rectangle whose sides are in the ratio 6: 5. The area of rectangle is (use $\pi = 22/7$)

Options :

1. ✓ 120 cm^2

2. * 108 cm^2

3. * 216 cm^2

4. * 132 cm^2

Question Number : 112 Question Id : 54592729200 Question Type : MCQ Option Shuffling : Yes
Correct Marks : 1 Wrong Marks : 0.25

14 सें.मी. व्यास वाले एक वृत्ताकर तार को एक आयताकार के रूप में मोड़ा जाता है, जिसकी भुजाओं का अनुपात 6: 5 है, तो आयत का क्षेत्रफल है; ($P = 22/7$ का उपयोग करें।)

Options :

1. ✓ 120 वर्ग सेमी

2. * 108 वर्ग सेमी

3. * 216 वर्ग सेमी

4. * 132 वर्ग सेमी

Question Number : 113 Question Id : 54592729201 Question Type : MCQ Option Shuffling : Yes
Correct Marks : 1 Wrong Marks : 0.25

Find the volume of a cuboid whose length is 12 cm, breadth is 10 cm and height is 8 cm.

Options :

1. * 900 cube cm

2. * 920 cube cm

3. * 940 cube cm

4. ✓ 960 Cube cm

Question Number : 113 Question Id : 54592729201 Question Type : MCQ Option Shuffling : Yes
Correct Marks : 1 Wrong Marks : 0.25

एक घनाभ जिसकी लंबाई 12 सेमी, चौड़ाई 10 सेमी और ऊँचाई 8 सेमी है, का आयतन ज्ञात करें।

Options :

1. ✖ 900 घन सेमी
2. ✖ 920 घन सेमी
3. ✖ 940 घन सेमी
4. ✔ 960 घन सेमी

Question Number : 114 Question Id : 54592729202 Question Type : MCQ Option Shuffling : Yes

Correct Marks : 1 Wrong Marks : 0.25

A horse is tethered at one corner of a square plot of side 35 m by a rope 28 m long. The ungrazed area is _____.

Options :

1. ✔ 606 m^2
2. ✖ 576 m^2
3. ✖ 504 m^2
4. ✖ 632 m^2

Question Number : 114 Question Id : 54592729202 Question Type : MCQ Option Shuffling : Yes

Correct Marks : 1 Wrong Marks : 0.25

35 मीटर भुजा के एक वर्ग भूखंड के एक कोने पर एक घोड़े को 28 मीटर लंबी रस्सी से बाँधा जाता है। बिना चरा क्षेत्रफल है।

Options :

1. ✔ 606 वर्ग मीटर
2. ✖ 576 वर्ग मीटर
3. ✖ 504 वर्ग मीटर
4. ✖ 632 वर्ग मीटर

Question Number : 115 Question Id : 54592729203 Question Type : MCQ Option Shuffling : Yes

Correct Marks : 1 Wrong Marks : 0.25

Study the following table carefully to answer these questions:

Populations (in thousands) of Six States over the years						
Years	STATE					
	A	B	C	D	E	F
2014	92	140	193	160	140	160
2015	119	150	210	185	135	175
2016	125	170	215	230	145	190
2017	130	190	226	240	160	200

What was the average population of all the states together in 2017?

Options :

1. ✓ 1,91,000
2. ✗ 1,82,000
3. ✗ 1,86,200
4. ✗ 1,75,500

Question Number : 115 Question Id : 54592729203 Question Type : MCQ Option Shuffling : Yes

Correct Marks : 1 Wrong Marks : 0.25

निम्नलिखित प्रश्नों का उत्तर देने के लिए सावधानीपूर्वक निम्नलिखित तालिका का अध्ययन करें।

दिए गए वर्षों में 6 राज्यों की जनसंख्या (हजार में)						
वर्ष	राज्य					
	A	B	C	D	E	F
2014	92	140	193	160	140	160
2015	119	150	210	185	135	175
2016	125	170	215	230	145	190
2017	130	190	226	240	160	200

2017 में सभी राज्यों की औसत जनसंख्या क्या थी?

Options :

1. ✓ 1,91,000

2. ✗ 1,82,000

3. ✗ 1,86,200

4. ✗ 1,75,500

Question Number : 116 Question Id : 54592729204 Question Type : MCQ Option Shuffling : Yes

Correct Marks : 1 Wrong Marks : 0.25

Study the following graph carefully to answer the questions.

The following pie chart shows the Percentage of Visitors visited at three different tourist places of India in a particular week and table shows the ratio of male to female.

Total Number of Visitors = 80,000.



Respective Ratio of Male to female.

Places	Male	Female
Taj Mahal	4	1
India Gate	12	5
Qutub Minar	7	2

What is the respective ratio of total number of male visitors visited at Qutub minar to the total number of female visitors visited at Taj Mahal?

Options :

1. ✖ 4 : 9

2. ✖ 5 : 7

3. ✖ 6 : 7

4. ✔ 40 : 9

Question Number : 116 Question Id : 54592729204 Question Type : MCQ Option Shuffling : Yes
Correct Marks : 1 Wrong Marks : 0.25

निम्नलिखित प्रश्नों का उत्तर देने के लिए निम्नलिखित ग्राफ का ध्यानपूर्वक अध्ययन करें।

निम्नलिखित पाई चार्ट किसी सप्ताह में भारत के तीन अलग-अलग पर्यटक स्थल पर आने वाले आगंतुकों के प्रतिशत को दर्शाता और तालिका पुरुषों तथा महिलाओं के अनुपात को दर्शाता है।

आगंतुकों की कुल संख्या = 80,000



पुरुषों तथा महिलाओं के क्रमशः अनुपात

स्थान	पुरुष	महिला
ताज महल	4	1
इंडिया गेट	12	5
कुतुब मीनार	7	2

कुतुब मीनार में पुरुष आगंतुकों की संख्या तथा ताजमहल में महिला आगंतुकों की संख्या का क्रमशः अनुपात क्या है?

Options :

1. * 4 : 9
2. * 5 : 7
3. * 6 : 7

4. ✓ 40 : 9

Question Number : 117 Question Id : 54592729205 Question Type : MCQ Option Shuffling : Yes
Correct Marks : 1 Wrong Marks : 0.25

Study the following table carefully to answer these questions:

Number of candidates appearing for an interview for a post in various Banks and percentage of candidates qualifying

Banks	Candidates Appearing	% of Candidates Qualifying
A	1000	15
B	1800	25
C	2500	20
D	1400	15
E	800	30

What was the respective ratio of the number of candidates who qualified in bank A to the number of candidates who qualified in bank C?

Options :

1. ✗ 7 : 5

2. ✗ 5 : 8

3. ✗ 3 : 7

4. ✓ 3 : 10

Question Number : 117 Question Id : 54592729205 Question Type : MCQ Option Shuffling : Yes
Correct Marks : 1 Wrong Marks : 0.25

निम्नलिखित प्रश्नों का उत्तर देने के लिए सावधानीपूर्वक निम्नलिखित तालिका का अध्ययन करें:

विभिन्न बैंकों में किसी पद के लिए एक साक्षात्कार के लिए आवेदन करने वाले अभ्यर्थियों की संख्या और उत्तीर्ण अभ्यर्थियों का प्रतिशत।

बैंक	अभ्यर्थियों की संख्या	उत्तीर्ण अभ्यर्थियों का %
A	1000	15
B	1800	25
C	2500	20
D	1400	15
E	800	30

बैंक A में उत्तीर्ण अभ्यर्थियों की संख्या तथा बैंक C में उत्तीर्ण अभ्यर्थियों की संख्या का क्रमशः अनुपात क्या है?

Options :

1. ✖ 7 : 5

2. ✖ 5 : 8

3. ✖ 3 : 7

4. ✔ 3 : 10

Question Number : 118 Question Id : 54592729206 Question Type : MCQ Option Shuffling : Yes

Correct Marks : 1 Wrong Marks : 0.25

Study the following graph carefully to answer the questions. Graph shows the number of televisions produced by different companies.



What was the respective ratio between the number of televisions manufactured by the company-A in the year 2015 and the number of televisions manufactured by company-B in year 2018?

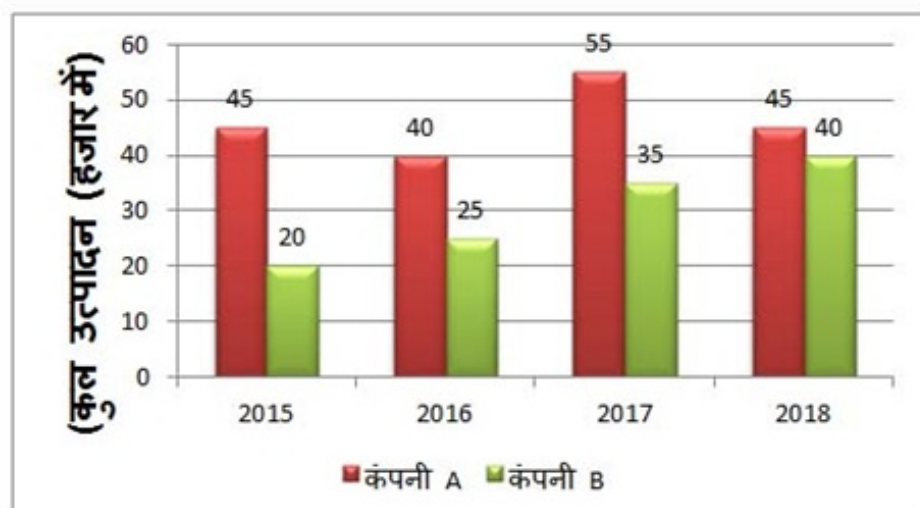
Options :

1. ✖ 1 : 3
2. ✖ 3 : 5
3. ✖ 4 : 2
4. ✔ 9 : 8

Question Number : 118 Question Id : 54592729206 Question Type : MCQ Option Shuffling : Yes
Correct Marks : 1 Wrong Marks : 0.25

निम्नलिखित प्रश्नों का उत्तर देने के लिए निम्नलिखित ग्राफ का ध्यानपूर्वक अध्ययन करें।

ग्राफ विभिन्न कंपनियों द्वारा उत्पादित टीवी की संख्या को दर्शाता है।



वर्ष 2015 में कंपनी-A द्वारा निर्मित टीवी की संख्या और वर्ष 2018 में कंपनी-B द्वारा निर्मित टीवी की संख्या का क्रमशः अनुपात क्या था?

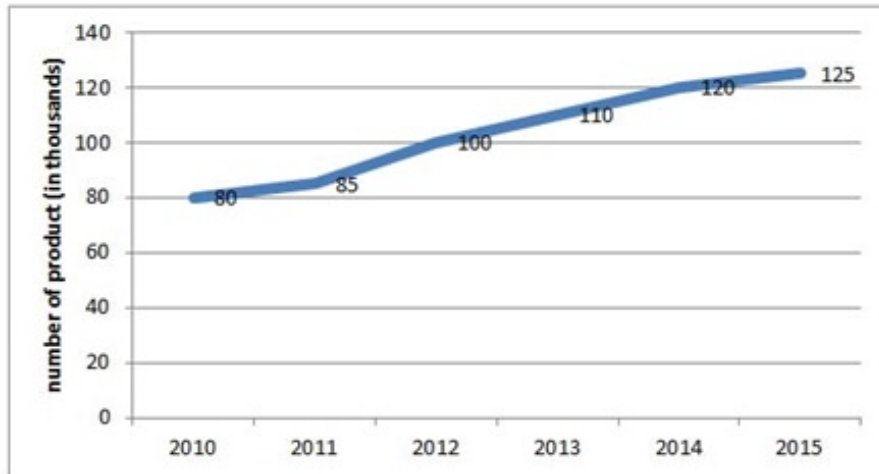
Options :

- ✘ 1 : 3
- ✘ 3 : 5
- ✘ 4 : 2
- ✔ 9 : 8

Question Number : 119 Question Id : 54592729207 Question Type : MCQ Option Shuffling : Yes
Correct Marks : 1 Wrong Marks : 0.25

Study the following line graph carefully to answer the questions.

Line graph shows the number of refrigerator produced by a company in the different years.



What was the percentage increases in the number of refrigerator manufactured by the company A in year 2014 as compared to the previous year?

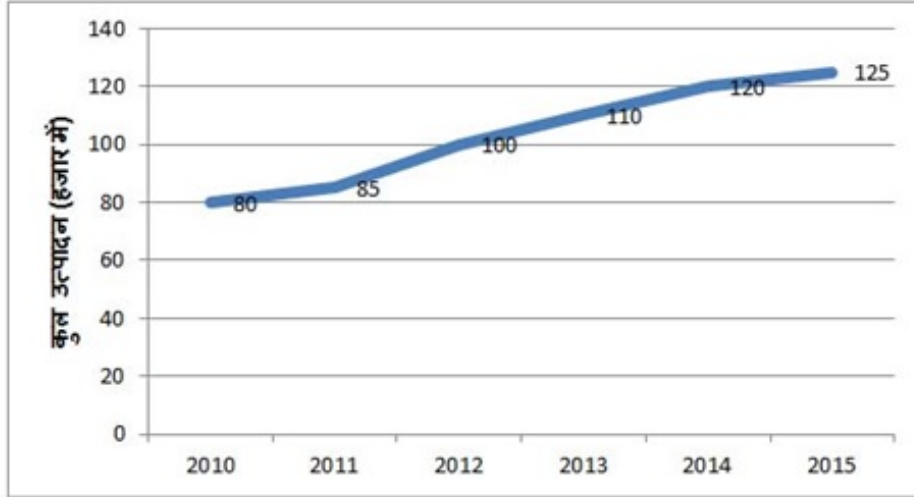
Options :

1. ✘ 11.11 percent
2. ✔ 9.09 percent
3. ✘ 12.5 percent
4. ✘ 15 percent

Question Number : 119 Question Id : 54592729207 Question Type : MCQ Option Shuffling : Yes
Correct Marks : 1 Wrong Marks : 0.25

निम्नलिखित प्रश्नों का उत्तर देने के लिए निम्नलिखित ग्राफ का ध्यानपूर्वक अध्ययन करें।

लाइन ग्राफ विभिन्न वर्षों में किसी कंपनी द्वारा उत्पादित रेफ्रिजरेटर की संख्या को दर्शाता है।



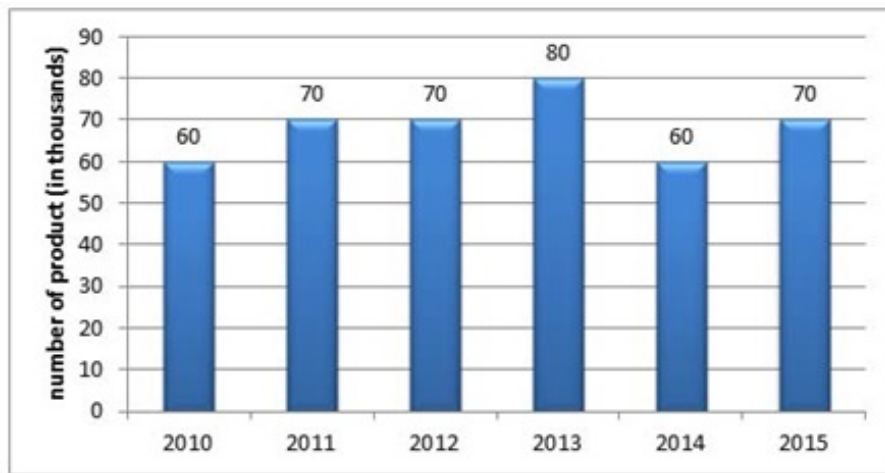
पिछले वर्ष की तुलना में वर्ष 2014 में कंपनी द्वारा निर्मित रेफ्रिजरेटर की संख्या में कितने प्रतिशत की वृद्धि हुई?

Options :

- ✘ 11.11 प्रतिशत
- ✔ 9.09 प्रतिशत
- ✘ 12.5 प्रतिशत
- ✘ 15 प्रतिशत

Question Number : 120 Question Id : 54592729208 Question Type : MCQ Option Shuffling : Yes
Correct Marks : 1 Wrong Marks : 0.25

Study the following graph carefully to answer the questions.
The following graph represents the number of Laptops produced by a company in the different years.



If the cost of manufacturing one Laptop in the year 2010 was Rs. 15,000, then what was the total expenditure of company B for manufacturing all the Laptops in the same year?

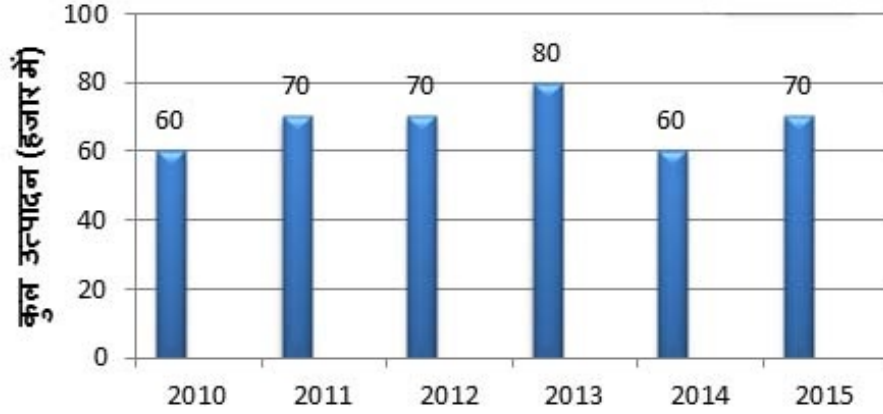
Options :

1. ✖ 70 crore.
2. ✖ 55 crore.
3. ✖ 60 crore.
4. ✔ 90 crore.

Question Number : 120 Question Id : 54592729208 Question Type : MCQ Option Shuffling : Yes
Correct Marks : 1 Wrong Marks : 0.25

निम्नलिखित प्रश्नों का उत्तर देने के लिए ग्राफ का ध्यानपूर्वक अध्ययन करें।

निम्नलिखित ग्राफ विभिन्न वर्षों में किसी कंपनी द्वारा उत्पादित लैपटॉप की संख्या को दर्शाता है।



यदि वर्ष 2010 में एक लैपटॉप के निर्माण की लागत रु.15,000 थी, तो उसी वर्ष लैपटॉप बनाने में कंपनी का कुल खर्च क्या था?

Options :

1. ✘ 70 करोड़
2. ✘ 55 करोड़
3. ✘ 60 करोड़
4. ✔ 90 करोड़

General English1

Group Number :	7
Group Id :	5459271447
Group Maximum Duration :	0
Group Minimum Duration :	0
Show Attended Group? :	No
Edit Attended Group? :	No
Break time:	0
Group Marks:	20
Is this Group for Examiner?:	No

Revisit allowed for group Instructions? :	Yes
Maximum Instruction Time:	0
Minimum Instruction Time:	0

General English1

Section Id :	5459271447
Section Number :	1
Section type :	Online
Mandatory or Optional:	Mandatory
Number of Questions:	20
Number of Questions to be attempted:	20
Section Marks:	20

Sub-Section Number:	1
Sub-Section Id:	5459271735
Question Shuffling Allowed :	Yes

Question Number : 121 Question Id : 54592729209 Question Type : MCQ Option Shuffling : Yes
Correct Marks : 1 Wrong Marks : 0.25

Identify the segment in the sentence which contains the grammatical error from the given options.

The clownfish can live for at least 30 years, it will be important to understand if the fish can adapt on light.

Options :

1. ✖ The clownfish can live
2. ✖ at least 30 years,
3. ✖ it will be important
4. ✔ the fish can adapt on light.

Question Number : 121 Question Id : 54592729209 Question Type : MCQ Option Shuffling : Yes
Correct Marks : 1 Wrong Marks : 0.25

Identify the segment in the sentence which contains the grammatical error from the given options.

The clownfish can live for at least 30 years, it will be important to understand if the fish can adapt on light.

Options :

1. ✖ The clownfish can live
2. ✖ at least 30 years,
3. ✖ it will be important
4. ✔ the fish can adapt on light.

Question Number : 122 Question Id : 54592729210 Question Type : MCQ Option Shuffling : Yes
Correct Marks : 1 Wrong Marks : 0.25

Identify the segment in the sentence which contains the grammatical error from the given options.

To protect the planet and coffee producing, Nespresso is battling climate change from the ground up by planting millions of trees.

Options :

1. ✖ To protect the planet
2. ✔ and coffee producing,

3. ✖ Nespresso is battling climate change

4. ✖ by planting millions of trees.

Question Number : 122 Question Id : 54592729210 Question Type : MCQ Option Shuffling : Yes

Correct Marks : 1 Wrong Marks : 0.25

Identify the segment in the sentence which contains the grammatical error from the given options.

To protect the planet and coffee producing, Nespresso is battling climate change from the ground up by planting millions of trees.

Options :

1. ✖ To protect the planet

2. ✔ and coffee producing,

3. ✖ Nespresso is battling climate change

4. ✖ by planting millions of trees.

Question Number : 123 Question Id : 54592729211 Question Type : MCQ Option Shuffling : Yes

Correct Marks : 1 Wrong Marks : 0.25

Identify the segment in the sentence which contains the grammatical error from the given options.

Plagued by mechanical and construction issues, none of the ships actually make it to Europe during the second world war.

Options :

1. ✖ Plagued by mechanical and construction
2. ✖ none of the ships
3. ✔ actually make it to Europe
4. ✖ during the second world war.

Question Number : 123 Question Id : 54592729211 Question Type : MCQ Option Shuffling : Yes
Correct Marks : 1 Wrong Marks : 0.25

Identify the segment in the sentence which contains the grammatical error from the given options.

Plagued by mechanical and construction issues, none of the ships actually make it to Europe during the second world war.

Options :

1. ✖ Plagued by mechanical and construction
2. ✖ none of the ships
3. ✔ actually make it to Europe

4. ✖ during the second world war.

Question Number : 124 Question Id : 54592729212 Question Type : MCQ Option Shuffling : Yes
Correct Marks : 1 Wrong Marks : 0.25

Identify the segment in the sentence which contains the grammatical error from the given options.

Mallows Bay already is a popular tourist spot, where visitors can kayak through shipwrecks and observe an array of wildlife.

Options :

1. ✔ Mallows Bay already is a
2. ✖ popular tourist spot,
3. ✖ where visitors can kayak
4. ✖ observe an array of wildlife.

Question Number : 124 Question Id : 54592729212 Question Type : MCQ Option Shuffling : Yes
Correct Marks : 1 Wrong Marks : 0.25

Identify the segment in the sentence which contains the grammatical error from the given options.

Mallows Bay already is a popular tourist spot, where visitors can kayak through shipwrecks and observe an array of wildlife.

Options :

1. ✓ Mallows Bay already is a
2. ✗ popular tourist spot,
3. ✗ where visitors can kayak
4. ✗ observe an array of wildlife.

Question Number : 125 Question Id : 54592729213 Question Type : MCQ Option Shuffling : Yes
Correct Marks : 1 Wrong Marks : 0.25

Identify the segment in the sentence which contains the grammatical error from the given options.

After months of grueling training, the first Emirati astronaut will soon blast-off for a historic mission aboard International Space Station.

Options :

1. ✗ After months of
2. ✗ astronaut will soon blast-off

3. ✖ historic mission aboard

4. ✔ International Space Station.

Question Number : 125 Question Id : 54592729213 Question Type : MCQ Option Shuffling : Yes

Correct Marks : 1 Wrong Marks : 0.25

Identify the segment in the sentence which contains the grammatical error from the given options.

After months of grueling training, the first Emirati astronaut will soon blast-off for a historic mission aboard International Space Station.

Options :

1. ✖ After months of

2. ✖ astronaut will soon blast-off

3. ✖ historic mission aboard

4. ✔ International Space Station.

Question Number : 126 Question Id : 54592729214 Question Type : MCQ Option Shuffling : Yes

Correct Marks : 1 Wrong Marks : 0.25

Select the most appropriate option to substitute the underlined segment in the given sentence. If there is no need to substitute it, select option No substitution required.

The illegal wildlife trade is a multibillion dollar criminal enterprise.

Options :

1. ✖ multibillion dollar enterprise.
2. ✖ multibillion dollar enterprise criminal
3. ✖ multibillion enterprise dollar criminal
4. ✔ No substitution required

Question Number : 126 Question Id : 54592729214 Question Type : MCQ Option Shuffling : Yes
Correct Marks : 1 Wrong Marks : 0.25

Select the most appropriate option to substitute the underlined segment in the given sentence. If there is no need to substitute it, select option No substitution required.

The illegal wildlife trade is a multibillion dollar criminal enterprise.

Options :

1. ✖ multibillion dollar enterprise.
2. ✖ multibillion dollar enterprise criminal
3. ✖ multibillion enterprise dollar criminal

4. ✓ No substitution required

Question Number : 127 Question Id : 54592729215 Question Type : MCQ Option Shuffling : Yes
Correct Marks : 1 Wrong Marks : 0.25

Select the most appropriate option to substitute the underlined segment in the given sentence. If there is no need to substitute it, select option No substitution required.

There's no bad season to visit Versailles, but its extensive gardens are at its best in spring and summer.

Options :

1. ✖ is at its best
2. ✓ are at their best
3. ✖ is at their best
4. ✖ No substitution

Question Number : 127 Question Id : 54592729215 Question Type : MCQ Option Shuffling : Yes
Correct Marks : 1 Wrong Marks : 0.25

Select the most appropriate option to substitute the underlined segment in the given sentence. If there is no need to substitute it, select option No substitution required.

There's no bad season to visit Versailles, but its extensive gardens are at its best in spring and summer.

Options :

1. ✖ is at its best
2. ✔ are at their best
3. ✖ is at their best
4. ✖ No substitution

Question Number : 128 Question Id : 54592729216 Question Type : MCQ Option Shuffling : Yes
Correct Marks : 1 Wrong Marks : 0.25

Select the most appropriate option to substitute the underlined segment in the given sentence. If there is no need to substitute it, select option No substitution required.

Peru is a world leader in laws and policies that supported used natural ecosystems.

Options :

1. ✖ which supporting used
2. ✖ that supported use
3. ✔ that support using
4. ✖ No substitution required

Question Number : 128 Question Id : 54592729216 Question Type : MCQ Option Shuffling : Yes
Correct Marks : 1 Wrong Marks : 0.25

Select the most appropriate option to substitute the underlined segment in the given sentence. If there is no need to substitute it, select option No substitution required.

Peru is a world leader in laws and policies that supported used natural ecosystems.

Options :

1. ✖ which supporting used
2. ✖ that supported use
3. ✔ that support using
4. ✖ No substitution required

Question Number : 129 Question Id : 54592729217 Question Type : MCQ Option Shuffling : Yes
Correct Marks : 1 Wrong Marks : 0.25

Select the most appropriate option to substitute the underlined segment in the given sentence. If there is no need to substitute it, select option No substitution required.

Diabetes is a disorder of carbohydrate metabolism whose earliest known documentation appears in an Egyptian text.

Options :

1. ✖ who early know
2. ✖ whose earlier knew
3. ✖ which early known
4. ✔ No substitution required

Question Number : 129 Question Id : 54592729217 Question Type : MCQ Option Shuffling : Yes
Correct Marks : 1 Wrong Marks : 0.25

Select the most appropriate option to substitute the underlined segment in the given sentence. If there is no need to substitute it, select option No substitution required.

Diabetes is a disorder of carbohydrate metabolism whose earliest known documentation appears in an Egyptian text.

Options :

1. ✖ who early know
2. ✖ whose earlier knew
3. ✖ which early known
4. ✔ No substitution required

Question Number : 130 Question Id : 54592729218 Question Type : MCQ Option Shuffling : Yes
Correct Marks : 1 Wrong Marks : 0.25

Select the most appropriate option to substitute the underlined segment in the given sentence. If there is no need to substitute it, select option No substitution required.

In recent decades, researchers have refined and honed insulin to make it more stable, longer-lasting, and easier to inject.

Options :

1. ✖ has refine and hone
2. ✖ have refine and hone
3. ✖ has refined and honed

4. ✓ No substitution required

Question Number : 130 Question Id : 54592729218 Question Type : MCQ Option Shuffling : Yes

Correct Marks : 1 Wrong Marks : 0.25

Select the most appropriate option to substitute the underlined segment in the given sentence. If there is no need to substitute it, select option No substitution required.

In recent decades, researchers have refined and honed insulin to make it more stable, longer-lasting, and easier to inject.

Options :

1. ✗ has refine and hone
2. ✗ have refine and hone
3. ✗ has refined and honed
4. ✓ No substitution required

Question Number : 131 Question Id : 54592729219 Question Type : MCQ Option Shuffling : Yes

Correct Marks : 1 Wrong Marks : 0.25

Select the most appropriate word to fill in the blank.

Zebra fish, seem to experience sleep cycles that are similar _____ sleep in humans.

Options :

1. ✓ to
2. ✗ of
3. ✗ with

4. ✖ for

Question Number : 131 Question Id : 54592729219 Question Type : MCQ Option Shuffling : Yes
Correct Marks : 1 Wrong Marks : 0.25

Select the most appropriate word to fill in the blank.

Zebra fish, seem to experience sleep cycles that are similar
_____ sleep in humans.

Options :

1. ✔ to

2. ✖ of

3. ✖ with

4. ✖ for

Question Number : 132 Question Id : 54592729220 Question Type : MCQ Option Shuffling : Yes
Correct Marks : 1 Wrong Marks : 0.25

Select the most appropriate word to fill in the blank.

Human beings interact with nature through technology and
create institutions to accelerate _____ economic
development.

Options :

1. ✖ its

2. ✔ their

3. ✖ one's

4. ✖ there

Question Number : 132 Question Id : 54592729220 Question Type : MCQ Option Shuffling : Yes

Correct Marks : 1 Wrong Marks : 0.25

Select the most appropriate word to fill in the blank.

Human beings interact with nature through technology and create institutions to accelerate _____ economic development.

Options :

1. ✘ its
2. ✔ their
3. ✘ one's
4. ✘ there

Question Number : 133 Question Id : 54592729221 Question Type : MCQ Option Shuffling : Yes

Correct Marks : 1 Wrong Marks : 0.25

Select the most appropriate word to fill in the blank.

Indiscriminate exploitation of resources has _____ to global ecological crises such as, global warming, ozone layer depletion, environmental pollution and land degradation.

Options :

1. ✘ lead
2. ✘ leads
3. ✔ led
4. ✘ leading

Question Number : 133 Question Id : 54592729221 Question Type : MCQ Option Shuffling : Yes

Correct Marks : 1 Wrong Marks : 0.25

Select the most appropriate word to fill in the blank.

Indiscriminate exploitation of resources has _____ to global ecological crises such as, global warming, ozone layer depletion, environmental pollution and land degradation.

Options :

1. ✖ lead
2. ✖ leads
3. ✔ led
4. ✖ leading

Question Number : 134 Question Id : 54592729222 Question Type : MCQ Option Shuffling : Yes
Correct Marks : 1 Wrong Marks : 0.25

Select the most appropriate word to fill in the blank.

There are many regions in our country that are rich in resources _____ these are included in economically backward regions.

Options :

1. ✖ and
2. ✖ since
3. ✖ for
4. ✔ but

Question Number : 134 Question Id : 54592729222 Question Type : MCQ Option Shuffling : Yes
Correct Marks : 1 Wrong Marks : 0.25

Select the most appropriate word to fill in the blank.

There are many regions in our country that are rich in resources _____ these are included in economically backward regions.

Options :

1. ✖ and
2. ✖ since
3. ✖ for
4. ✔ but

Question Number : 135 Question Id : 54592729223 Question Type : MCQ Option Shuffling : Yes
Correct Marks : 1 Wrong Marks : 0.25

Select the most appropriate word to fill in the blank.

The world's _____ land mammal, the cheetah, is a unique and specialized member of the cat family and can move at the speed of 112 km. /hr.

Options :

1. ✔ fastest
2. ✖ faster
3. ✖ fast

4. ✖ more faster

Question Number : 135 Question Id : 54592729223 Question Type : MCQ Option Shuffling : Yes
Correct Marks : 1 Wrong Marks : 0.25

Select the most appropriate word to fill in the blank.

The world's _____ land mammal, the cheetah, is a unique and specialized member of the cat family and can move at the speed of 112 km. /hr.

Options :

1. ✔ fastest

2. ✖ faster

3. ✖ fast

4. ✖ more faster

Question Number : 136 Question Id : 54592729224 Question Type : MCQ Option Shuffling : Yes
Correct Marks : 1 Wrong Marks : 0.25

Select the most appropriate word to fill in the blank.

Three-fourth of the earth's surface is covered with water, but only a small proportion of it accounts _____ freshwater that can be put to use.

Options :

1. ✖ of

2. ✔ for

3. ✖ with

4. ✖ to

Question Number : 136 Question Id : 54592729224 Question Type : MCQ Option Shuffling : Yes

Correct Marks : 1 Wrong Marks : 0.25

Select the most appropriate word to fill in the blank.

Three-fourth of the earth's surface is covered with water, but only a small proportion of it accounts _____ freshwater that can be put to use.

Options :

1. ✖ of

2. ✔ for

3. ✖ with

4. ✖ to

Question Number : 137 Question Id : 54592729225 Question Type : MCQ Option Shuffling : Yes

Correct Marks : 1 Wrong Marks : 0.25

Select the most appropriate word to fill in the blank.

The floods have not only devastated life and property _____ caused extensive soil erosion.

Options :

1. ✖ but

2. ✖ and

3. ✓ but also

4. ✗ and also

Question Number : 137 Question Id : 54592729225 Question Type : MCQ Option Shuffling : Yes

Correct Marks : 1 Wrong Marks : 0.25

Select the most appropriate word to fill in the blank.

The floods have not only devastated life and property
_____ caused extensive soil erosion.

Options :

1. ✗ but

2. ✗ and

3. ✓ but also

4. ✗ and also

Question Number : 138 Question Id : 54592729226 Question Type : MCQ Option Shuffling : Yes

Correct Marks : 1 Wrong Marks : 0.25

Select the most appropriate word to fill in the blank.

_____ food grains, agriculture also produces raw material
for various industries.

Options :

1. ✗ Beside

2. ✗ In addition

3. ✗ Alternatively

4. ✓ Besides

Question Number : 138 Question Id : 54592729226 Question Type : MCQ Option Shuffling : Yes

Correct Marks : 1 Wrong Marks : 0.25

Select the most appropriate word to fill in the blank.

_____ food grains, agriculture also produces raw material for various industries.

Options :

1. ✖ Beside
2. ✖ In addition
3. ✖ Alternatively
4. ✔ Besides

Question Number : 139 Question Id : 54592729227 Question Type : MCQ Option Shuffling : Yes

Correct Marks : 1 Wrong Marks : 0.25

Rearrange the following sentences in their correct order to form a meaningful paragraph.

A: Our morning cup of coffee is on the brink of extinction.

B: This is due to worsening climatic conditions, deforestation, and the spread of fungal pathogens and pests.

C: According to a 2019 report, 60 percent of all wild coffee species could disappear in the coming decades.

D: Climate change alone, experts predict, could cut the land suitable for Arabica coffee production in half by 2050.

Options :

1. ✓ ACBD

2. ✗ ABDC

3. ✗ ADCA

4. ✗ ACDB

Question Number : 139 Question Id : 54592729227 Question Type : MCQ Option Shuffling : Yes

Correct Marks : 1 Wrong Marks : 0.25

Rearrange the following sentences in their correct order to form a meaningful paragraph.

A: Our morning cup of coffee is on the brink of extinction.

B: This is due to worsening climatic conditions, deforestation, and the spread of fungal pathogens and pests.

C: According to a 2019 report, 60 percent of all wild coffee species could disappear in the coming decades.

D: Climate change alone, experts predict, could cut the land suitable for Arabica coffee production in half by 2050.

Options :

1. ✓ ACBD

2. ✗ ABDC

3. ✗ ADCA

4. ✗ ACDB

Question Number : 140 Question Id : 54592729228 Question Type : MCQ Option Shuffling : Yes
Correct Marks : 1 Wrong Marks : 0.25

A sentence has four parts, rearrange the given parts so as to form a meaningful sentence.

A: not come under the categories of novel,

B: Non-fiction is virtually everything that

C: short story, play or poem.

D: we read as literature but that does

Options :

1. ✖ **BADC**

2. ✔ **BDAC**

3. ✖ **BCAD**

4. ✖ **BDCA**

Question Number : 140 Question Id : 54592729228 Question Type : MCQ Option Shuffling : Yes

Correct Marks : 1 Wrong Marks : 0.25

A sentence has four parts, rearrange the given parts so as to form a meaningful sentence.

A: not come under the categories of novel,

B: Non-fiction is virtually everything that

C: short story, play or poem.

D: we read as literature but that does

Options :

1. ✖ BADC

2. ✔ BDAC

3. ✖ BCAD

4. ✖ BDCA

General English2

Group Number :	8
Group Id :	5459271448
Group Maximum Duration :	0
Group Minimum Duration :	0
Show Attended Group? :	No
Edit Attended Group? :	No
Break time:	0
Group Marks:	20
Is this Group for Examiner?:	No
Revisit allowed for group Instructions? :	Yes
Maximum Instruction Time:	0
Minimum Instruction Time:	0

General English2

Section Id :	5459271448
Section Number :	1
Section type :	Online
Mandatory or Optional:	Mandatory
Number of Questions:	16
Number of Questions to be attempted:	16
Section Marks:	20

Sub-Section Number:	1
Sub-Section Id:	5459271736
Question Shuffling Allowed :	Yes

Question Number : 141 Question Id : 54592729229 Question Type : MCQ Option Shuffling : Yes
Correct Marks : 1 Wrong Marks : 0.25

Rearrange the following sentences in their correct order to form a meaningful paragraph.

A: They can track up to 13,000 years of history using tree ring chronologies for over 4,000 sites on six continents.

B: Dendrochronology, the scientific method of studying tree rings, can pinpoint the age of archaeological sites.

C: Originally developed for climate science, the method is now an invaluable tool for archaeologists.

D: Archaeologists have a group of allies: trees.

Options :

1. ✘ DACB

2. ✘ DCBA

3. ✔ DBCA

4. ✖ DBAC

Question Number : 141 Question Id : 54592729229 Question Type : MCQ Option Shuffling : Yes
Correct Marks : 1 Wrong Marks : 0.25

Rearrange the following sentences in their correct order to form a meaningful paragraph.

A: They can track up to 13,000 years of history using tree ring chronologies for over 4,000 sites on six continents.

B: Dendrochronology, the scientific method of studying tree rings, can pinpoint the age of archaeological sites.

C: Originally developed for climate science, the method is now an invaluable tool for archaeologists.

D: Archaeologists have a group of allies: trees.

Options :

1. ✖ DACB

2. ✖ DCBA

3. ✔ DBCA

4. ✖ DBAC

Question Number : 142 Question Id : 54592729230 Question Type : MCQ Option Shuffling : Yes
Correct Marks : 1 Wrong Marks : 0.25

Select the synonym of the given word.

Candid

Options :

1. ✓ Frank
2. ✗ Meagre
3. ✗ Absurd
4. ✗ Urban

Question Number : 142 Question Id : 54592729230 Question Type : MCQ Option Shuffling : Yes
Correct Marks : 1 Wrong Marks : 0.25

Select the synonym of the given word.

Candid

Options :

1. ✓ Frank
2. ✗ Meagre
3. ✗ Absurd
4. ✗ Urban

Question Number : 143 Question Id : 54592729231 Question Type : MCQ Option Shuffling : Yes
Correct Marks : 1 Wrong Marks : 0.25

Select the antonym of the given word.

Suspicious

Options :

1. ✗ Enslave

2. ✓ Credible

3. ✗ Impatient

4. ✗ Dwindle

Question Number : 143 Question Id : 54592729231 Question Type : MCQ Option Shuffling : Yes
Correct Marks : 1 Wrong Marks : 0.25

Select the antonym of the given word.

Suspicious

Options :

1. ✗ Enslave

2. ✓ Credible

3. ✗ Impatient

4. ✗ Dwindle

Question Number : 144 Question Id : 54592729232 Question Type : MCQ Option Shuffling : Yes
Correct Marks : 1 Wrong Marks : 0.25

Select the synonym of the given word.

Lethargic

Options :

1. ✗ Vigorous

2. ✗ Poise

3. ✓ Inactive

4. ✗ Accomplish

Question Number : 144 Question Id : 54592729232 Question Type : MCQ Option Shuffling : Yes
Correct Marks : 1 Wrong Marks : 0.25

Select the synonym of the given word.

Lethargic

Options :

1. ✘ Vigorous
2. ✘ Poise
3. ✔ Inactive
4. ✘ Accomplish

Question Number : 145 Question Id : 54592729233 Question Type : MCQ Option Shuffling : Yes
Correct Marks : 1 Wrong Marks : 0.25

Select the antonym of the given word.

Compliant

Options :

1. ✔ Defiant
2. ✘ Mistrust
3. ✘ Discrete
4. ✘ Tolerant

Question Number : 145 Question Id : 54592729233 Question Type : MCQ Option Shuffling : Yes
Correct Marks : 1 Wrong Marks : 0.25

Select the antonym of the given word.

Compliant

Options :

1. ✓ Defiant
2. ✗ Mistrust
3. ✗ Discrete
4. ✗ Tolerant

Question Number : 146 Question Id : 54592729234 Question Type : MCQ Option Shuffling : Yes
Correct Marks : 1 Wrong Marks : 0.25

Select the synonym of the given word.

Reproach

Options :

1. ✗ Numerous
2. ✓ Disapprove
3. ✗ Plentiful
4. ✗ Complicated

Question Number : 146 Question Id : 54592729234 Question Type : MCQ Option Shuffling : Yes
Correct Marks : 1 Wrong Marks : 0.25

Select the synonym of the given word.

Reproach

Options :

1. ✗ Numerous
2. ✓ Disapprove
3. ✗ Plentiful
4. ✗ Complicated

Question Number : 147 Question Id : 54592729235 Question Type : MCQ Option Shuffling : Yes
Correct Marks : 1 Wrong Marks : 0.25

Select the wrongly spelt word.

Options :

1. ✓ Erroneous
2. ✗ Endorse
3. ✗ Restrict
4. ✗ Humiliate

Question Number : 147 Question Id : 54592729235 Question Type : MCQ Option Shuffling : Yes
Correct Marks : 1 Wrong Marks : 0.25

Select the wrongly spelt word.

Options :

1. ✓ Erroneous
2. ✗ Endorse
3. ✗ Restrict
4. ✗ Humiliate

Question Number : 148 Question Id : 54592729236 Question Type : MCQ Option Shuffling : Yes
Correct Marks : 1 Wrong Marks : 0.25

Select the wrongly spelt word.

Options :

1. ✗ Improbable
2. ✓ Longevity

3. ✖ Decamp

4. ✖ Recluse

Question Number : 148 Question Id : 54592729236 Question Type : MCQ Option Shuffling : Yes
Correct Marks : 1 Wrong Marks : 0.25

Select the wrongly spelt word.

Options :

1. ✖ Improbable

2. ✔ Longivity

3. ✖ Decamp

4. ✖ Recluse

Question Number : 149 Question Id : 54592729237 Question Type : MCQ Option Shuffling : Yes
Correct Marks : 1 Wrong Marks : 0.25

Select the wrongly spelt word.

Options :

1. ✖ Extort

2. ✖ Lethargy

3. ✔ Exijent

4. ✖ Disclose

Question Number : 149 Question Id : 54592729237 Question Type : MCQ Option Shuffling : Yes
Correct Marks : 1 Wrong Marks : 0.25

Select the wrongly spelt word.

Options :

1. ✘ Extort
2. ✘ Lethargy
3. ✔ Exigent
4. ✘ Disclose

Question Number : 150 Question Id : 54592729238 Question Type : MCQ Option Shuffling : Yes
Correct Marks : 1 Wrong Marks : 0.25

Select the meaning of the given idiom.

Wild goose chase

Options :

1. ✔ A chase for something difficult
2. ✘ Illegal supply of wild animals
3. ✘ To follow in footsteps
4. ✘ A lost opportunity

Question Number : 150 Question Id : 54592729238 Question Type : MCQ Option Shuffling : Yes
Correct Marks : 1 Wrong Marks : 0.25

Select the meaning of the given idiom.

Wild goose chase

Options :

1. ✔ A chase for something difficult
2. ✘ Illegal supply of wild animals
3. ✘ To follow in footsteps

4. ✖ A lost opportunity

Question Number : 151 Question Id : 54592729239 Question Type : MCQ Option Shuffling : Yes
Correct Marks : 1 Wrong Marks : 0.25

Select the meaning of the given idiom.

The apple of one's eye

Options :

1. ✖ Centre of attraction
2. ✔ A cherished person
3. ✖ A dream to follow
4. ✖ To overlook shortcomings

Question Number : 151 Question Id : 54592729239 Question Type : MCQ Option Shuffling : Yes
Correct Marks : 1 Wrong Marks : 0.25

Select the meaning of the given idiom.

The apple of one's eye

Options :

1. ✖ Centre of attraction
2. ✔ A cherished person
3. ✖ A dream to follow
4. ✖ To overlook shortcomings

Question Number : 152 Question Id : 54592729240 Question Type : MCQ Option Shuffling : Yes
Correct Marks : 1 Wrong Marks : 0.25

Select the meaning of the given idiom.

Fight tooth and nail

Options :

1. ✖ To be unwilling
2. ✖ Lacking in strength
3. ✔ To compete with intensity
4. ✖ To dispute over a small issue

Question Number : 152 Question Id : 54592729240 Question Type : MCQ Option Shuffling : Yes
Correct Marks : 1 Wrong Marks : 0.25

Select the meaning of the given idiom.

Fight tooth and nail

Options :

1. ✖ To be unwilling
2. ✖ Lacking in strength
3. ✔ To compete with intensity
4. ✖ To dispute over a small issue

Question Number : 153 Question Id : 54592729241 Question Type : MCQ Option Shuffling : Yes
Correct Marks : 1 Wrong Marks : 0.25

Select the word which means the same as the group of words given.

A person who draws or produces maps.

Options :

1. ✓ Cartographer
2. ✗ Chauffeur
3. ✗ Choreographer
4. ✗ Calligrapher

Question Number : 153 Question Id : 54592729241 Question Type : MCQ Option Shuffling : Yes
Correct Marks : 1 Wrong Marks : 0.25

Select the word which means the same as the group of words given.

A person who draws or produces maps.

Options :

1. ✓ Cartographer
2. ✗ Chauffeur
3. ✗ Choreographer
4. ✗ Calligrapher

Question Number : 154 Question Id : 54592729242 Question Type : MCQ Option Shuffling : Yes
Correct Marks : 1 Wrong Marks : 0.25

Select the word which means the same as the group of words given.

A group of people assembled for religious worship.

Options :

1. ✗ Devotee
2. ✓ Congregation
3. ✗ Caravan

4. ✖ Hamlet

Question Number : 154 Question Id : 54592729242 Question Type : MCQ Option Shuffling : Yes

Correct Marks : 1 Wrong Marks : 0.25

Select the word which means the same as the group of words given.

A group of people assembled for religious worship.

Options :

1. ✖ Devotee

2. ✔ Congregation

3. ✖ Caravan

4. ✖ Hamlet

Question Number : 155 Question Id : 54592729243 Question Type : MCQ Option Shuffling : Yes

Correct Marks : 1 Wrong Marks : 0.25

Select the word which means the same as the group of words given.

An alphabetical list of words relating to a specific subject

Options :

1. ✖ Preface

2. ✖ Bibliography

3. ✔ Glossary

4. ✖ Appendix

Question Number : 155 Question Id : 54592729243 Question Type : MCQ Option Shuffling : Yes

Correct Marks : 1 Wrong Marks : 0.25

Select the word which means the same as the group of words given.

An alphabetical list of words relating to a specific subject

Options :

1. ✘ Preface
2. ✘ Bibliography
3. ✔ Glossary
4. ✘ Appendix

Sub-Section Number:	2
Sub-Section Id:	5459271737
Question Shuffling Allowed :	Yes

Question Id : 54592729244 Question Type : COMPREHENSION Sub Question Shuffling Allowed : Yes Group Comprehension Questions : No

Question Numbers : (156 to 160)

Question Label : Comprehension

Answer the questions based on the following passage.

Global police customs officials have concluded the most widespread environmental crime operation ever organized, involving 109 countries and resulting in nearly 2,000 seizures of protected wildlife, including 440 ivory pieces, more than 4,300 birds, and nearly 10,000 live turtles and tortoises, according to Interpol.

The effort, coordinated by Interpol and the World Customs Organization (WCO), identified nearly 600 suspects and spurred arrests around the world. Dubbed Operation Thunder ball, it's the third in a series —Interpol executed Operation Thunderbird in 2017 and Operation Thunderstorm in 2018, both of which targeted the illegal wildlife and timber trade and resulted in thousands of seizures.

The illegal wildlife trade is a multibillion dollar criminal enterprise. It's the primary threat to the survival of numerous species, including African elephants, which are targeted for their ivory; pangolins, which are targeted for use in traditional Chinese medicine, and many species of birds and reptiles, which enter the exotic pet trade. Wildlife crime is linked to corruption, money laundering, and other forms of organized crime.

Wildlife crime has spiked in recent years, which is why Interpol and the WCO decided to join forces, says Roux Raath, WCO's environment program manager. "The demand for wildlife products is increasing, the world population is increasing," he says.

The operation focused on identifying trafficking routes and crime hot spots ahead of time, with the aim of preventing wildlife crime from occurring. "When we start working, most of the time, it's too late in terms of conservation," says Henri Fournel, Interpol's coordinator of environmental security. "We just want to make it clear to the criminals that...we are just watching them."

Operation Thunder ball is "not a numbers game," says the WCO's Raath. The number of seizures has gone down over the years, which means law enforcement efforts are leading to the "dismantling of criminal networks," he says.

"If we keep the pressure on and if we clamp down on specific routes and specific countries," Raath says, "that forces criminals to either look at different commodities or either different countries, different routes....It's changing the patterns."

This is the key to dealing with wildlife crime, says Susan Lieberman, vice president of international policy for the New York-based Wildlife Conservation Society—it's about targeting the "criminal networks that are driving this horrendous crime," not individuals. She says it's "fantastic" that Interpol and the WCO are aiming to disrupt criminal networks, and to be most effective, the countries have to follow up with prosecutions.

"A lot of times we see seizures, and then nothing happens," she says. "People have to go to jail, particularly the people running these networks—the spider in the centre of the web."

Sub questions

Question Number : 156 Question Id : 54592729245 Question Type : MCQ Option Shuffling : Yes

Correct Marks : 1 Wrong Marks : 0.25

According to the passage what is the key to dealing with wildlife crime?

Options :

1. ✓ It's about targeting the criminal network rather than individuals.
2. ✗ Increase in the quantum of punishment
3. ✗ Enforcement of law and order situations
4. ✗ Reframing of criminal laws.

Question Number : 157 Question Id : 54592729246 Question Type : MCQ Option Shuffling : Yes

Correct Marks : 1 Wrong Marks : 0.25

Which of the following operation is associated with illegal wildlife and timber trade?

Options :

1. ✗ Operation Thunderbird
2. ✓ Operation thunderbird & operation thunderstorm
3. ✗ Operation Thunderstorm
4. ✗ Operation thunder ball

Question Number : 158 Question Id : 54592729247 Question Type : MCQ Option Shuffling : Yes

Correct Marks : 1 Wrong Marks : 0.25

What led the Interpol and the WCO to come together and join hands in operation?

Options :

1. ✖ The illegal wildlife trade is a multibillion dollar criminal enterprise.
2. ✖ Survival of numerous species
3. ✔ Wildlife crime has spiked in recent years
4. ✖ Exotic pet trade

Question Number : 159 Question Id : 54592729248 Question Type : MCQ Option Shuffling : Yes
Correct Marks : 1 Wrong Marks : 0.25

The illegal wildlife trade is related to all of the following except:

Options :

1. ✖ African elephants
2. ✖ Pangolins
3. ✖ Birds & Reptiles
4. ✔ Timber trade

Question Number : 160 Question Id : 54592729249 Question Type : MCQ Option Shuffling : Yes
Correct Marks : 1 Wrong Marks : 0.25

The subject matter of the given passage is one of the following options:

Options :

1. ✔ Wildlife crime
2. ✖ Operation Thunderstorm
3. ✖ World Customs Organization
4. ✖ Environmental Security.

Question Id : 54592729244 Question Type : COMPREHENSION Sub Question Shuffling Allowed : Yes Group Comprehension
Questions : No
Question Numbers : (156 to 160)

Question Label : Comprehension

Answer the questions based on the following passage.

Global police customs officials have concluded the most widespread environmental crime operation ever organized, involving 109 countries and resulting in nearly 2,000 seizures of protected wildlife, including 440 ivory pieces, more than 4,300 birds, and nearly 10,000 live turtles and tortoises, according to Interpol.

The effort, coordinated by Interpol and the World Customs Organization (WCO), identified nearly 600 suspects and spurred arrests around the world. Dubbed Operation Thunder ball, it's the third in a series –Interpol executed Operation Thunderbird in 2017 and Operation Thunderstorm in 2018, both of which targeted the illegal wildlife and timber trade and resulted in thousands of seizures.

The illegal wildlife trade is a multibillion dollar criminal enterprise. It's the primary threat to the survival of numerous species, including African elephants, which are targeted for their ivory; pangolins, which are targeted for use in traditional Chinese medicine, and many species of birds and reptiles, which enter the exotic pet trade. Wildlife crime is linked to corruption, money laundering, and other forms of organized crime.

Wildlife crime has spiked in recent years, which is why Interpol and the WCO decided to join forces, says Roux Raath, WCO's environment program manager. "The demand for wildlife products is increasing, the world population is increasing," he says.

The operation focused on identifying trafficking routes and crime hot spots ahead of time, with the aim of preventing wildlife crime from occurring. "When we start working, most of the time, it's too late in terms of conservation," says Henri Fournel, Interpol's coordinator of environmental security. "We just want to make it clear to the criminals that...we are just watching them."

Operation Thunder ball is "not a numbers game," says the WCO's Raath. The number of seizures has gone down over the years, which means law enforcement efforts are leading to the "dismantling of criminal networks," he says.

"If we keep the pressure on and if we clamp down on specific routes and specific countries," Raath says, "that forces criminals to either look at different commodities or either different countries, different routes....It's changing the patterns."

This is the key to dealing with wildlife crime, says Susan Lieberman, vice president of international policy for the New York-based Wildlife Conservation Society—it's about targeting the "criminal networks that are driving this horrendous crime," not individuals. She says its "fantastic" that Interpol and the WCO are aiming to disrupt criminal networks, and to be most effective, the countries have to follow up with prosecutions.

"A lot of times we see seizures, and then nothing happens," she says. "People have to go to jail, particularly the people running these networks—the spider in the centre of the web."

Sub questions

Question Number : 156 Question Id : 54592729245 Question Type : MCQ Option Shuffling : Yes

Correct Marks : 1 Wrong Marks : 0.25

According to the passage what is the key to dealing with wildlife crime?

Options :

1. ✓ It's about targeting the criminal network rather than individuals.
2. ✗ Increase in the quantum of punishment
3. ✗ Enforcement of law and order situations
4. ✗ Reframing of criminal laws.

Question Number : 157 Question Id : 54592729246 Question Type : MCQ Option Shuffling : Yes

Correct Marks : 1 Wrong Marks : 0.25

Which of the following operation is associated with illegal wildlife and timber trade?

Options :

1. ✗ Operation Thunderbird
2. ✓ Operation thunderbird & operation thunderstorm
3. ✗ Operation Thunderstorm
4. ✗ Operation thunder ball

Question Number : 158 Question Id : 54592729247 Question Type : MCQ Option Shuffling : Yes

Correct Marks : 1 Wrong Marks : 0.25

What led the Interpol and the WCO to come together and join hands in operation?

Options :

1. ✖ The illegal wildlife trade is a multibillion dollar criminal enterprise.
2. ✖ Survival of numerous species
3. ✔ Wildlife crime has spiked in recent years
4. ✖ Exotic pet trade

Question Number : 159 Question Id : 54592729248 Question Type : MCQ Option Shuffling : Yes

Correct Marks : 1 Wrong Marks : 0.25

The illegal wildlife trade is related to all of the following except:

Options :

1. ✖ African elephants
2. ✖ Pangolins
3. ✖ Birds & Reptiles
4. ✔ Timber trade

Question Number : 160 Question Id : 54592729249 Question Type : MCQ Option Shuffling : Yes

Correct Marks : 1 Wrong Marks : 0.25

The subject matter of the given passage is one of the following options:

Options :

1. ✓ Wildlife crime
2. ✘ Operation Thunderstorm
3. ✘ World Customs Organization
4. ✘ Environmental Security.

General Hindi1

Group Number :	9
Group Id :	5459271449
Group Maximum Duration :	0
Group Minimum Duration :	0
Show Attended Group? :	No
Edit Attended Group? :	No
Break time:	0
Group Marks:	20
Is this Group for Examiner?:	No
Revisit allowed for group Instructions? :	Yes
Maximum Instruction Time:	0
Minimum Instruction Time:	0

General Hindi1

Section Id :	5459271449
Section Number :	1
Section type :	Online
Mandatory or Optional:	Mandatory
Number of Questions:	20
Number of Questions to be attempted:	20
Section Marks:	20

Sub-Section Number:	1
Sub-Section Id:	5459271738
Question Shuffling Allowed :	Yes

Question Number : 161 Question Id : 54592729250 Question Type : MCQ Option Shuffling : Yes
Correct Marks : 1 Wrong Marks : 0.25

भाषा की सबसे छोटी इकाई है-

Options :

1. ✘ स्वर
2. ✘ व्यंजन

3. ✓ वर्ण

4. ✘ ध्वनि

Question Number : 161 Question Id : 54592729250 Question Type : MCQ Option Shuffling : Yes
Correct Marks : 1 Wrong Marks : 0.25

भाषा की सबसे छोटी इकाई है-

Options :

1. ✘ स्वर

2. ✘ व्यंजन

3. ✓ वर्ण

4. ✘ ध्वनि

Question Number : 162 Question Id : 54592729251 Question Type : MCQ Option Shuffling : Yes
Correct Marks : 1 Wrong Marks : 0.25

आर्शीवाद का सही संधि-विच्छेद है-

Options :

1. ✘ आशीर+ वाद

2. ✓ आशी: + वाद

3. ✘ आर्शी + वाद

4. ✘ आषीर + वाद

Question Number : 162 Question Id : 54592729251 Question Type : MCQ Option Shuffling : Yes
Correct Marks : 1 Wrong Marks : 0.25

आर्शीवाद का सही संधि-विच्छेद है-

Options :

1. ✘ आशीर+ वाद

2. ✓ आशी: + वाद

3. ✘ आर्शी + वाद

4. ✘ आषीर + वाद

Question Number : 163 Question Id : 54592729252 Question Type : MCQ Option Shuffling : Yes
Correct Marks : 1 Wrong Marks : 0.25

उपसर्ग रहित शब्द कौन-सा है-

Options :

1. ✓ ठण्डक
2. * निस्सन्देह
3. * परिज्ञान
4. * स्वजन

Question Number : 163 Question Id : 54592729252 Question Type : MCQ Option Shuffling : Yes

Correct Marks : 1 Wrong Marks : 0.25

उपसर्ग रहित शब्द कौन-सा है-

Options :

1. ✓ ठण्डक
2. * निस्सन्देह
3. * परिज्ञान
4. * स्वजन

Question Number : 164 Question Id : 54592729253 Question Type : MCQ Option Shuffling : Yes

Correct Marks : 1 Wrong Marks : 0.25

'लकड़हारा' शब्द में कौन-सा प्रत्यय है-

Options :

1. * कारक प्रत्यय
2. * कृत प्रत्यय
3. ✓ तद्धित प्रत्यय
4. * स्त्री प्रत्यय

Question Number : 164 Question Id : 54592729253 Question Type : MCQ Option Shuffling : Yes

Correct Marks : 1 Wrong Marks : 0.25

'लकड़हारा' शब्द में कौन-सा प्रत्यय है-

Options :

1. * कारक प्रत्यय
2. * कृत प्रत्यय

3. ✓ तद्धित प्रत्यय

4. * स्त्री प्रत्यय

Question Number : 165 Question Id : 54592729254 Question Type : MCQ Option Shuffling : Yes

Correct Marks : 1 Wrong Marks : 0.25

जिस समास के दोनों पद अप्रधान होते हैं, वहाँ पर कौन-सा समास होता है-

Options :

1. * द्वन्द्व

2. * द्विगु

3. * तत्पुरुष

4. ✓ बहुब्रीहि

Question Number : 165 Question Id : 54592729254 Question Type : MCQ Option Shuffling : Yes

Correct Marks : 1 Wrong Marks : 0.25

जिस समास के दोनों पद अप्रधान होते हैं, वहाँ पर कौन-सा समास होता है-

Options :

1. * द्वन्द्व

2. * द्विगु

3. * तत्पुरुष

4. ✓ बहुब्रीहि

Question Number : 166 Question Id : 54592729255 Question Type : MCQ Option Shuffling : Yes

Correct Marks : 1 Wrong Marks : 0.25

'अल्पसंख्यक' का विलोम शब्द है-

Options :

1. * अतिसंख्यक

2. ✓ बहुसंख्यक

3. * महासंख्यक

4. * बाहुल्य

Question Number : 166 Question Id : 54592729255 Question Type : MCQ Option Shuffling : Yes

Correct Marks : 1 Wrong Marks : 0.25

'अल्पसंख्यक' का विलोम शब्द है-

Options :

1. * अतिसंख्यक
2. ✓ बहुसंख्यक
3. * महासंख्यक
4. * बाहुल्य

Question Number : 167 Question Id : 54592729256 Question Type : MCQ Option Shuffling : Yes

Correct Marks : 1 Wrong Marks : 0.25

केवल पुस्तकीय ज्ञान छात्रों की मौलिक प्रतिभा का _____ नहीं कर सकता।

Options :

1. * अमर्ष
2. ✓ उन्मेष
3. * पीयूष
4. * प्रत्यूष

Question Number : 167 Question Id : 54592729256 Question Type : MCQ Option Shuffling : Yes

Correct Marks : 1 Wrong Marks : 0.25

केवल पुस्तकीय ज्ञान छात्रों की मौलिक प्रतिभा का _____ नहीं कर सकता।

Options :

1. * अमर्ष
2. ✓ उन्मेष
3. * पीयूष
4. * प्रत्यूष

Question Number : 168 Question Id : 54592729257 Question Type : MCQ Option Shuffling : Yes

Correct Marks : 1 Wrong Marks : 0.25

'परोक्ष' का विलोम शब्द है-

Options :

1. ✓ प्रत्यक्ष
2. * स्थूल
3. * द्रष्टव्य
4. * अपरोक्ष

Question Number : 168 Question Id : 54592729257 Question Type : MCQ Option Shuffling : Yes
Correct Marks : 1 Wrong Marks : 0.25

परोक्ष' का विलोम शब्द है-

Options :

1. ✓ प्रत्यक्ष
2. * स्थूल
3. * द्रष्टव्य
4. * अपरोक्ष

Question Number : 169 Question Id : 54592729258 Question Type : MCQ Option Shuffling : Yes
Correct Marks : 1 Wrong Marks : 0.25

आशा से बहुत अधिक मिल जाना कहलाता है-

Options :

1. ✓ आशातीत
2. * आशावान
3. * अप्रत्याशित
4. * प्रत्याशित

Question Number : 169 Question Id : 54592729258 Question Type : MCQ Option Shuffling : Yes
Correct Marks : 1 Wrong Marks : 0.25

आशा से बहुत अधिक मिल जाना कहलाता है-

Options :

1. ✓ आशातीत
2. * आशावान
3. * अप्रत्याशित

4. * प्रत्याशित

Question Number : 170 Question Id : 54592729259 Question Type : MCQ Option Shuffling : Yes
Correct Marks : 1 Wrong Marks : 0.25

किसी के पास रखी दूसरे की वस्तु कहलाती है-

Options :

1. * परवर्ती
2. * बपौती
3. ✓ थाती
4. * वर्तिका

Question Number : 170 Question Id : 54592729259 Question Type : MCQ Option Shuffling : Yes
Correct Marks : 1 Wrong Marks : 0.25

किसी के पास रखी दूसरे की वस्तु कहलाती है-

Options :

1. * परवर्ती
2. * बपौती
3. ✓ थाती
4. * वर्तिका

Question Number : 171 Question Id : 54592729260 Question Type : MCQ Option Shuffling : Yes
Correct Marks : 1 Wrong Marks : 0.25

नागर' का पर्यायवाची शब्द है-

Options :

1. * नगर
2. * ढोल
3. * चतुर
4. ✓ नगरवासी

Question Number : 171 Question Id : 54592729260 Question Type : MCQ Option Shuffling : Yes
Correct Marks : 1 Wrong Marks : 0.25

नागर' का पर्यायवाची शब्द है-

Options :

1. * नगर
2. * ढोल
3. * चतुर
4. ✓ नगरवासी

Question Number : 172 Question Id : 54592729261 Question Type : MCQ Option Shuffling : Yes
Correct Marks : 1 Wrong Marks : 0.25

निम्नलिखित में से कौन-सा शब्द पुलिंग है-

Options :

1. ✓ कपट
2. * सुन्दरता
3. * मुखता
4. * निद्रा

Question Number : 172 Question Id : 54592729261 Question Type : MCQ Option Shuffling : Yes
Correct Marks : 1 Wrong Marks : 0.25

निम्नलिखित में से कौन-सा शब्द पुलिंग है-

Options :

1. ✓ कपट
2. * सुन्दरता
3. * मुखता
4. * निद्रा

Question Number : 173 Question Id : 54592729262 Question Type : MCQ Option Shuffling : Yes
Correct Marks : 1 Wrong Marks : 0.25

प्रश्न में दिए गए प्रत्येक चार विकल्पों में से असंगत (बेमेल) शब्द का चयन करें।

Options :

1. * आत्मजा
2. * नन्दिनी
3. * कन्या

4. ✓ भार्या

Question Number : 173 Question Id : 54592729262 Question Type : MCQ Option Shuffling : Yes
Correct Marks : 1 Wrong Marks : 0.25

प्रश्न में दिए गए प्रत्येक चार विकल्पों में से असंगत (बेमेल) शब्द का चयन करें।

Options :

1. ✘ आत्मजा
2. ✘ नन्दिनी
3. ✘ कन्या
4. ✓ भार्या

Question Number : 174 Question Id : 54592729263 Question Type : MCQ Option Shuffling : Yes
Correct Marks : 1 Wrong Marks : 0.25

निम्नलिखित में से कौन-सा एक युग्म समानार्थी है-

Options :

1. ✓ चपला-चंचला
2. ✘ नदी-आकाश
3. ✘ वीर-भीरू
4. ✘ बूढ़े-जवान

Question Number : 174 Question Id : 54592729263 Question Type : MCQ Option Shuffling : Yes
Correct Marks : 1 Wrong Marks : 0.25

निम्नलिखित में से कौन-सा एक युग्म समानार्थी है-

Options :

1. ✓ चपला-चंचला
2. ✘ नदी-आकाश
3. ✘ वीर-भीरू
4. ✘ बूढ़े-जवान

Question Number : 175 Question Id : 54592729264 Question Type : MCQ Option Shuffling : Yes
Correct Marks : 1 Wrong Marks : 0.25

पिशुन' का पर्यायवाची शब्द है-

Options :

1. * पिशाच
2. ✓ चुगलखोर
3. * पीसना
4. * बेईमान

Question Number : 175 Question Id : 54592729264 Question Type : MCQ Option Shuffling : Yes

Correct Marks : 1 Wrong Marks : 0.25

पिशुन' का पर्यायवाची शब्द है-

Options :

1. * पिशाच
2. ✓ चुगलखोर
3. * पीसना
4. * बेईमान

Question Number : 176 Question Id : 54592729265 Question Type : MCQ Option Shuffling : Yes

Correct Marks : 1 Wrong Marks : 0.25

लिंग की दृष्टि से 'दही' क्या है-

Options :

1. * स्त्रीलिंग
2. ✓ पुलिंग
3. * नपुंसक लिंग
4. * उभय लिंग

Question Number : 176 Question Id : 54592729265 Question Type : MCQ Option Shuffling : Yes

Correct Marks : 1 Wrong Marks : 0.25

लिंग की दृष्टि से 'दही' क्या है-

Options :

1. * स्त्रीलिंग
2. ✓ पुलिंग

3. * नपुंसक लिंग

4. * उभय लिंग

Question Number : 177 Question Id : 54592729266 Question Type : MCQ Option Shuffling : Yes

Correct Marks : 1 Wrong Marks : 0.25

इनमें से अनिश्चयवाचक सर्वनाम कौन-सा है-

Options :

1. * कौन

2. * जो

3. ✓ कोई

4. * वह

Question Number : 177 Question Id : 54592729266 Question Type : MCQ Option Shuffling : Yes

Correct Marks : 1 Wrong Marks : 0.25

इनमें से अनिश्चयवाचक सर्वनाम कौन-सा है-

Options :

1. * कौन

2. * जो

3. ✓ कोई

4. * वह

Question Number : 178 Question Id : 54592729267 Question Type : MCQ Option Shuffling : Yes

Correct Marks : 1 Wrong Marks : 0.25

'भारतीय' शब्द का बहुवचन है-

Options :

1. * भारतीय

2. ✓ भारतीयों

3. * भारतीओं

4. * भारतियों

Question Number : 178 Question Id : 54592729267 Question Type : MCQ Option Shuffling : Yes

Correct Marks : 1 Wrong Marks : 0.25

भारतीय' शब्द का बहुवचन है-

Options :

1. * भारतीय
2. ✓ भारतीयों
3. * भारतिओं
4. * भारतियों

Question Number : 179 Question Id : 54592729268 Question Type : MCQ Option Shuffling : Yes
Correct Marks : 1 Wrong Marks : 0.25

स्त्रीत्व' शब्द में कौन-सी संज्ञा है-

Options :

1. * जातिवाचक संज्ञा
2. * व्यक्तिवाचक संज्ञा
3. ✓ भाववाचक संज्ञा
4. * द्रव्यवाचक संज्ञा

Question Number : 179 Question Id : 54592729268 Question Type : MCQ Option Shuffling : Yes
Correct Marks : 1 Wrong Marks : 0.25

स्त्रीत्व' शब्द में कौन-सी संज्ञा है-

Options :

1. * जातिवाचक संज्ञा
2. * व्यक्तिवाचक संज्ञा
3. ✓ भाववाचक संज्ञा
4. * द्रव्यवाचक संज्ञा

Question Number : 180 Question Id : 54592729269 Question Type : MCQ Option Shuffling : Yes
Correct Marks : 1 Wrong Marks : 0.25

पशु' शब्द का विशेषण क्या है-

Options :

1. ✓ पाशविक
2. * पशुत्व

3. * पशुपति

4. * पशुता

Question Number : 180 Question Id : 54592729269 Question Type : MCQ Option Shuffling : Yes
Correct Marks : 1 Wrong Marks : 0.25

पशु शब्द का विशेषण क्या है-

Options :

1. ✓ पाशविक

2. * पशुत्व

3. * पशुपति

4. * पशुता

General Hindi2

Group Number :	10
Group Id :	5459271450
Group Maximum Duration :	0
Group Minimum Duration :	120
Show Attended Group? :	No
Edit Attended Group? :	No
Break time:	0
Group Marks:	20
Is this Group for Examiner?:	No
Revisit allowed for group Instructions? :	Yes
Maximum Instruction Time:	0
Minimum Instruction Time:	0

General Hindi2

Section Id :	5459271450
Section Number :	1
Section type :	Online
Mandatory or Optional:	Mandatory
Number of Questions:	16
Number of Questions to be attempted:	16
Section Marks:	20

Sub-Section Number:	1
Sub-Section Id:	5459271739

Question Number : 181 Question Id : 54592729270 Question Type : MCQ Option Shuffling : Yes

Correct Marks : 1 Wrong Marks : 0.25

तुलसीदास ने कहा कि विनाशकाल में मनुष्य की बुद्धि भ्रष्ट हो जाती है-

Options :

1. * साधारण वाक्य
2. * सरल वाक्य
3. * संयुक्त वाक्य
4. ✓ मिश्र वाक्य

Question Number : 181 Question Id : 54592729270 Question Type : MCQ Option Shuffling : Yes

Correct Marks : 1 Wrong Marks : 0.25

तुलसीदास ने कहा कि विनाशकाल में मनुष्य की बुद्धि भ्रष्ट हो जाती है-

Options :

1. * साधारण वाक्य
2. * सरल वाक्य
3. * संयुक्त वाक्य
4. ✓ मिश्र वाक्य

Question Number : 182 Question Id : 54592729271 Question Type : MCQ Option Shuffling : Yes

Correct Marks : 1 Wrong Marks : 0.25

निम्नलिखित में से वाक्य का शुद्ध रूप का चयन करें-

Options :

1. * उन्हें एक पुत्र है-
2. * उनको एक पुत्र है
3. ✓ उनका एक पुत्र है
4. * उनके एक पुत्र है

Question Number : 182 Question Id : 54592729271 Question Type : MCQ Option Shuffling : Yes

Correct Marks : 1 Wrong Marks : 0.25

निम्नलिखित में से वाक्य का शुद्ध रूप का चयन करें-

Options :

1. * उन्हें एक पुत्र है-
2. * उनको एक पुत्र है
3. ✓ उनका एक पुत्र है
4. * उनके एक पुत्र है

Question Number : 183 Question Id : 54592729272 Question Type : MCQ Option Shuffling : Yes
Correct Marks : 1 Wrong Marks : 0.25

निम्नलिखित में से वर्तनी की दृष्टि से कौन-सा शब्द शुद्ध है-

Options :

1. * शीषर्क
2. * शीषक
3. ✓ शीर्षक
4. * शीषक

Question Number : 183 Question Id : 54592729272 Question Type : MCQ Option Shuffling : Yes
Correct Marks : 1 Wrong Marks : 0.25

निम्नलिखित में से वर्तनी की दृष्टि से कौन-सा शब्द शुद्ध है-

Options :

1. * शीषर्क
2. * शीषक
3. ✓ शीर्षक
4. * शीषक

Question Number : 184 Question Id : 54592729273 Question Type : MCQ Option Shuffling : Yes
Correct Marks : 1 Wrong Marks : 0.25

चारपाई पर चादर बिछा दीजिए' वाक्य में से 'पर' कौन-सा कारक है-

Options :

1. * अपादान
2. ✓ अधिकरण
3. * सम्प्रदान

4. * सम्बन्ध

Question Number : 184 Question Id : 54592729273 Question Type : MCQ Option Shuffling : Yes
Correct Marks : 1 Wrong Marks : 0.25

चारपाई पर चादर बिछा दीजिए' वाक्य में से 'पर' कौन-सा कारक है-

Options :

1. * अपादान
2. ✓ अधिकरण
3. * सम्प्रदान
4. * सम्बन्ध

Question Number : 185 Question Id : 54592729274 Question Type : MCQ Option Shuffling : Yes
Correct Marks : 1 Wrong Marks : 0.25

जिसको प्रसन्न करना कठिन हो उसे कहते हैं-

Options :

1. * आशुतोष
2. * दम्भी
3. ✓ दुराराध्य
4. * क्रोधी

Question Number : 185 Question Id : 54592729274 Question Type : MCQ Option Shuffling : Yes
Correct Marks : 1 Wrong Marks : 0.25

जिसको प्रसन्न करना कठिन हो उसे कहते हैं-

Options :

1. * आशुतोष
2. * दम्भी
3. ✓ दुराराध्य
4. * क्रोधी

Question Number : 186 Question Id : 54592729275 Question Type : MCQ Option Shuffling : Yes
Correct Marks : 1 Wrong Marks : 0.25

मुर्धन्य व्यंजन है-

Options :

1. * च, छ, ज, झ
2. ✓ ट, ठ, ड, ढ
3. * त, थ, द, ध
4. * प, फ, ब, भ

Question Number : 186 Question Id : 54592729275 Question Type : MCQ Option Shuffling : Yes
Correct Marks : 1 Wrong Marks : 0.25

मुर्धन्य व्यंजन है-

Options :

1. * च, छ, ज, झ
2. ✓ ट, ठ, ड, ढ
3. * त, थ, द, ध
4. * प, फ, ब, भ

Question Number : 187 Question Id : 54592729276 Question Type : MCQ Option Shuffling : Yes
Correct Marks : 1 Wrong Marks : 0.25

शुद्ध वाक्य का चयन कीजिए-

Options :

1. * उसने मिष्टान्न खरीदा।
2. ✓ भोजन बहुत गरिष्ठ था।
3. * पंतजी की पष्ठिपूर्ति पर 'रूपाम्बरा' कृति भेंट में दी गयी।
4. * आप तो अन्तर्ध्यान हो गये।

Question Number : 187 Question Id : 54592729276 Question Type : MCQ Option Shuffling : Yes
Correct Marks : 1 Wrong Marks : 0.25

शुद्ध वाक्य का चयन कीजिए-

Options :

1. * उसने मिष्टान्न खरीदा।
2. ✓ भोजन बहुत गरिष्ठ था।
3. * पंतजी की पष्ठिपूर्ति पर 'रूपाम्बरा' कृति भेंट में दी गयी।

4. * आप तो अन्तर्ध्यान हो गये।

Question Number : 188 Question Id : 54592729277 Question Type : MCQ Option Shuffling : Yes

Correct Marks : 1 Wrong Marks : 0.25

ढाक के वही तीन पात होना' का अर्थ है-

Options :

1. * यत्नपूर्वक रखना
2. ✓ सदा एक सा
3. * उटपटांग काम करना
4. * अनुरूप बनना

Question Number : 188 Question Id : 54592729277 Question Type : MCQ Option Shuffling : Yes

Correct Marks : 1 Wrong Marks : 0.25

ढाक के वही तीन पात होना' का अर्थ है-

Options :

1. * यत्नपूर्वक रखना
2. ✓ सदा एक सा
3. * उटपटांग काम करना
4. * अनुरूप बनना

Question Number : 189 Question Id : 54592729278 Question Type : MCQ Option Shuffling : Yes

Correct Marks : 1 Wrong Marks : 0.25

काम काज में कोरा होना' का अर्थ है-

Options :

1. * काम न करना
2. * काम समाप्त करना
3. * काम पूरा न करना
4. ✓ काम न जानना

Question Number : 189 Question Id : 54592729278 Question Type : MCQ Option Shuffling : Yes

Correct Marks : 1 Wrong Marks : 0.25

काम काज में कोरा होना' का अर्थ है-

Options :

1. * काम न करना
2. * काम समाप्त करना
3. * काम पूरा न करना
4. ✓ काम न जानना

Question Number : 190 Question Id : 54592729279 Question Type : MCQ Option Shuffling : Yes
Correct Marks : 1 Wrong Marks : 0.25

शैतान के कान कतरना' मुहावरे का अर्थ है-

Options :

1. * नालायक होना
2. * बेसमझ होना
3. * नास्तिक होना
4. ✓ चालाक होना

Question Number : 190 Question Id : 54592729279 Question Type : MCQ Option Shuffling : Yes
Correct Marks : 1 Wrong Marks : 0.25

शैतान के कान कतरना' मुहावरे का अर्थ है-

Options :

1. * नालायक होना
2. * बेसमझ होना
3. * नास्तिक होना
4. ✓ चालाक होना

Question Number : 191 Question Id : 54592729280 Question Type : MCQ Option Shuffling : Yes
Correct Marks : 1 Wrong Marks : 0.25

जहाँ ऊपर लिखे गए अंश को नीचे की पंक्ति में यथावत् दोहराया गया हो वहाँ _____
चिन्ह का प्रयोग किया जाता है।

Options :

1. ✓ पुनरुक्ति सूचक चिन्ह
2. * तारक चिन्ह
3. * हंस पद चिन्ह

4. * संक्षेप चिन्ह

Question Number : 191 Question Id : 54592729280 Question Type : MCQ Option Shuffling : Yes
Correct Marks : 1 Wrong Marks : 0.25

जहाँ ऊपर लिखे गए अंश को नीचे की पंक्ति में यथावत् दोहराया गया हो वहाँ _____ चिन्ह का प्रयोग किया जाता है।

Options :

1. ✓ पुनरुक्ति सूचक चिन्ह
2. * तारक चिन्ह
3. * हंस पद चिन्ह
4. * संक्षेप चिन्ह

Question Number : 192 Question Id : 54592729281 Question Type : MCQ Option Shuffling : Yes
Correct Marks : 1 Wrong Marks : 0.25

संयुक्त वाक्य में दूसरे वाक्य का आरम्भ अतः, परन्तु, पर, तथापि, फिर भी, इसलिए, क्योंकि अतएव आदि संयोजकों से यदि हुआ हो, तो इनके पूर्व _____ लगाया जाता है।

Options :

1. * अर्द्धविराम
2. ✓ अल्पविराम
3. * पूर्णविराम
4. * योजक चिन्ह

Question Number : 192 Question Id : 54592729281 Question Type : MCQ Option Shuffling : Yes
Correct Marks : 1 Wrong Marks : 0.25

संयुक्त वाक्य में दूसरे वाक्य का आरम्भ अतः, परन्तु, पर, तथापि, फिर भी, इसलिए, क्योंकि अतएव आदि संयोजकों से यदि हुआ हो, तो इनके पूर्व _____ लगाया जाता है।

Options :

1. * अर्द्धविराम
2. ✓ अल्पविराम

3. * पूर्णविराम

4. * योजक चिन्ह

Question Number : 193 Question Id : 54592729282 Question Type : MCQ Option Shuffling : Yes

Correct Marks : 1 Wrong Marks : 0.25

निम्नलिखित लोकोक्तियों में से किसका अर्थ 'विपरीत कार्य करना है-

Options :

1. * अन्धा के आगे रोवे अपने नैना खोवे

2. * उल्टा चोर कोतवाल को डांटे

3. ✓ उल्टे बांस बरेली को

4. * अन्धेर नगरी चौपट राजा

Question Number : 193 Question Id : 54592729282 Question Type : MCQ Option Shuffling : Yes

Correct Marks : 1 Wrong Marks : 0.25

निम्नलिखित लोकोक्तियों में से किसका अर्थ 'विपरीत कार्य करना है-

Options :

1. * अन्धा के आगे रोवे अपने नैना खोवे

2. * उल्टा चोर कोतवाल को डांटे

3. ✓ उल्टे बांस बरेली को

4. * अन्धेर नगरी चौपट राजा

Question Number : 194 Question Id : 54592729283 Question Type : MCQ Option Shuffling : Yes

Correct Marks : 1 Wrong Marks : 0.25

मुहावरे का कौन-सा रूप शुद्ध है-

Options :

1. * कन्धों से कन्धे मिलाना

2. * कन्धा से कन्धा मिलाना

3. ✓ कन्धे से कन्धा मिलाना

4. * कनधे से कन्धे मिलाना

Question Number : 194 Question Id : 54592729283 Question Type : MCQ Option Shuffling : Yes

Correct Marks : 1 Wrong Marks : 0.25

मुहावरे का कौन-सा रूप शुद्ध है-

Options :

1. * कन्धों से कन्धे मिलाना
2. * कन्धा से कन्धा मिलाना
3. ✓ कन्धे से कन्धा मिलाना
4. * कन्धे से कन्धे मिलाना

Question Number : 195 Question Id : 54592729284 Question Type : MCQ Option Shuffling : Yes
Correct Marks : 1 Wrong Marks : 0.25

पराधीन सपनेहुं सुख नाहीं' वाक्य की मूल संवेदना क्या है

Options :

1. * पराश्रित होने के लिए नारी जीवन अभिशाप है
2. ✓ पराधीनता अभिशाप है
3. * गुलामी सबसे बड़ा संकट है
4. * आजादी सबसे बड़ा सुख है

Question Number : 195 Question Id : 54592729284 Question Type : MCQ Option Shuffling : Yes
Correct Marks : 1 Wrong Marks : 0.25

पराधीन सपनेहुं सुख नाहीं' वाक्य की मूल संवेदना क्या है

Options :

1. * पराश्रित होने के लिए नारी जीवन अभिशाप है
2. ✓ पराधीनता अभिशाप है
3. * गुलामी सबसे बड़ा संकट है
4. * आजादी सबसे बड़ा सुख है

Sub-Section Number: 2
Sub-Section Id: 5459271740
Question Shuffling Allowed : Yes

Question Id : 54592729285 Question Type : COMPREHENSION Sub Question Shuffling Allowed : Yes Group Comprehension
Questions : No

Question Numbers : (196 to 200)

Question Label : Comprehension

निम्नलिखित गद्यांश को पढ़कर दिए गए प्रश्न का उत्तर दें।

साहित्य का आधार जीवन है। इसी नींव पर साहित्य की दीवार खड़ी होती है। उसकी अटारियां मीनार और गुम्बद बनते हैं। लेकिन बुनियादें मिट्टी के नीचे दबी पड़ी रहती हैं। उन्हें देखने को भी जी नहीं चाहेगा। जीवन परमात्मा की सृष्टि है, इसलिए सुबोध है, सुगम है, और मर्यादाओं से परिमित है। जीवन परमात्मा को अपने कार्यों का जवाबदेह है या नहीं, हमें मालूम नहीं, लेकिन साहित्य तो मनुष्य के सामने जवाबदेह है इसके लिए कानून है जिसके इधर-उधर वह नहीं हो सकता। लेकिन जीवन का उद्देश्य ही आनंद है। मनुष्य जीवन पर्यन्त आनन्द की खोज में रहता है। किसी को वह रत्नद्रव्य में मिलता है, किसी को भरे पूरे परिवार में, किसी को लम्बे चौड़े भवन में, किसी को ऐश्वर्य में। लेकिन साहित्य का आनन्द इस आनन्द से ऊँचा है। इससे पवित्र है, उसका आधार सुन्दर और सत्य है। वास्तव में सच्चा आनन्द सुन्दर और सत्य से मिलता है। उसी आनन्द को दरसाना, वही आनन्द उत्पन्न करना साहित्य का उद्देश्य है। ऐश्वर्य या भोग के आनन्द में ग्लानि छिपी होती है। उसमें अरूचि भी हो सकती है, पश्चाताप भी हो सकता है, पर सुन्दर से जो आनन्द प्राप्त होता है, वह अखण्ड है, अमर है।

Sub questions

Question Number : 196 Question Id : 54592729286 Question Type : MCQ Option Shuffling : Yes

Correct Marks : 1 Wrong Marks : 0.25

उपयुक्त शीर्षक का चयन कीजिए-

Options :

1. ✓ साहित्य का आनन्द
2. * सुन्दर और आनन्द
3. * साहित्य और कविता
4. * जीवन का उद्देश्य आनन्द

Question Number : 197 Question Id : 54592729287 Question Type : MCQ Option Shuffling : Yes

Correct Marks : 1 Wrong Marks : 0.25

जीवन अगम्य है क्योंकि वह-

Options :

1. * अनन्त है

2. * अबोध है

3. ✓ परमात्मा की सृष्टि है

4. * साहित्य का आधार है

Question Number : 198 Question Id : 54592729288 Question Type : MCQ Option Shuffling : Yes
Correct Marks : 1 Wrong Marks : 0.25

साहित्य का आनन्द अखण्ड है, क्योंकि वह-

Options :

1. * जीवन पर आधारित है

2. ✓ सुन्दर और सत्य पर आधारित है

3. * जीवन के उद्देश्य की पूर्ति करता है

4. * ऐश्वर्य प्राप्ति में सहायक होता है

Question Number : 199 Question Id : 54592729289 Question Type : MCQ Option Shuffling : Yes
Correct Marks : 1 Wrong Marks : 0.25

सच्चे आनन्द की प्राप्ति होती है-

Options :

1. * सच्चे आनन्द की प्राप्ति होती है-

2. * साहित्य की रचना द्वारा

3. ✓ सत्य और सुन्दर के साक्षात्कार द्वारा

4. * परमात्मा के स्मरण द्वारा

Question Number : 200 Question Id : 54592729290 Question Type : MCQ Option Shuffling : Yes
Correct Marks : 1 Wrong Marks : 0.25

साहित्य का आधार है-

Options :

1. * ग्रंथ

2. * किताबें

3. * महाकाव्य

4. ✓ जीवन

Question Id : 54592729285 Question Type : COMPREHENSION Sub Question Shuffling Allowed : Yes Group Comprehension
Questions : No

Question Numbers : (196 to 200)

Question Label : Comprehension

निम्नलिखित गद्यांश को पढ़कर दिए गए प्रश्न का उत्तर दें।

साहित्य का आधार जीवन है। इसी नींव पर साहित्य की दीवार खड़ी होती है। उसकी अटारियां मीनार और गुम्बद बनते हैं। लेकिन बुनियादें मिट्टी के नीचे दबी पड़ी रहती हैं। उन्हें देखने को भी जी नहीं चाहेगा। जीवन परमात्मा की सृष्टि है, इसलिए सुबोध है, सुगम है, और मर्यादाओं से परिमित है। जीवन परमात्मा को अपने कार्यों का जवाबदेह है या नहीं, हमें मालूम नहीं, लेकिन साहित्य तो मनुष्य के सामने जवाबदेह है इसके लिए कानून है जिसके इधर-उधर वह नहीं हो सकता। लेकिन जीवन का उद्देश्य ही आनंद है। मनुष्य जीवन पर्यन्त आनन्द की खोज में रहता है। किसी को वह रत्नद्रव्य में मिलता है, किसी को भरे पूरे परिवार में, किसी को लम्बे चौड़े भवन में, किसी को ऐश्वर्य में। लेकिन साहित्य का आनन्द इस आनन्द से ऊँचा है। इससे पवित्र है, उसका आधार सुन्दर और सत्य है। वास्तव में सच्चा आनन्द सुन्दर और सत्य से मिलता है। उसी आनन्द को दरसाना, वही आनन्द उत्पन्न करना साहित्य का उद्देश्य है। ऐश्वर्य या भोग के आनन्द में ग्लानि छिपी होती है। उसमें अरुचि भी हो सकती है, पश्चाताप भी हो सकता है, पर सुन्दर से जो आनन्द प्राप्त होता है, वह अखण्ड है, अमर है।

Sub questions

Question Number : 196 Question Id : 54592729286 Question Type : MCQ Option Shuffling : Yes

Correct Marks : 1 Wrong Marks : 0.25

उपयुक्त शीर्षक का चयन कीजिए-

Options :

1. ✓ साहित्य का आनन्द
2. * सुन्दर और आनन्द

3. * साहित्य और कविता

4. * जीवन का उद्देश्य आनन्द

Question Number : 197 Question Id : 54592729287 Question Type : MCQ Option Shuffling : Yes

Correct Marks : 1 Wrong Marks : 0.25

जीवन अगम्य है क्योंकि वह-

Options :

1. * अनन्त है

2. * अबोध है

3. ✓ परमात्मा की सृष्टि है

4. * साहित्य का आधार है

Question Number : 198 Question Id : 54592729288 Question Type : MCQ Option Shuffling : Yes

Correct Marks : 1 Wrong Marks : 0.25

साहित्य का आनन्द अखण्ड है, क्योंकि वह-

Options :

1. * जीवन पर आधारित है

2. ✓ सुन्दर और सत्य पर आधारित है

3. * जीवन के उद्देश्य की पूर्ति करता है

4. * ऐश्वर्य प्राप्ति में सहायक होता है

Question Number : 199 Question Id : 54592729289 Question Type : MCQ Option Shuffling : Yes

Correct Marks : 1 Wrong Marks : 0.25

सच्चे आनन्द की प्राप्ति होती है-

Options :

1. * सच्चे आनन्द की प्राप्ति होती है-

2. * साहित्य की रचना द्वारा

3. ✓ सत्य और सुन्दर के साक्षात्कार द्वारा

4. * परमात्मा के स्मरण द्वारा

Question Number : 200 Question Id : 54592729290 Question Type : MCQ Option Shuffling : Yes

Correct Marks : 1 Wrong Marks : 0.25

साहित्य का आधार है-

Options :

1. ✖ ग्रंथ

2. ✖ किताबें

3. ✖ महाकाव्य

4. ✔ जीवन