

Education Consultant India Ltd.

Notations :

1.Options shown in green color and with ✓ icon are correct.

2.Options shown in red color and with ✖ icon are incorrect.

Question Paper Name:	Grade IV DASS Junior Assistant 05th September 2019 Shift 2
Subject Name:	GRADE IV DASS JUNIOR ASSISTANT
Creation Date:	2019-09-05 15:59:23
Duration:	120
Total Marks:	200
Display Marks:	Yes
Share Answer Key With Delivery Engine:	No
Actual Answer Key:	Yes
Calculator:	None
Magnifying Glass Required?:	No
Ruler Required?:	No
Eraser Required?:	No
Scratch Pad Required?:	No
Rough Sketch/Notepad Required?:	No
Protractor Required?:	No
Show Watermark on Console?:	Yes
Highlighter:	No
Auto Save on Console?:	No

Mental Ability1

Group Number :	1
Group Id :	5459271221
Group Maximum Duration :	0
Group Minimum Duration :	0
Show Attended Group? :	No
Edit Attended Group? :	No
Break time:	0
Group Marks:	20
Is this Group for Examiner?:	No
Revisit allowed for group Instructions? :	Yes
Maximum Instruction Time:	0
Minimum Instruction Time:	0

Mental Ability1

Section Id :	5459271221
Section Number :	1

Section type :	Online
Mandatory or Optional:	Mandatory
Number of Questions:	20
Number of Questions to be attempted:	20
Section Marks:	20

Sub-Section Number:	1
Sub-Section Id:	5459271465
Question Shuffling Allowed :	Yes

Question Number : 1 Question Id : 54592724645 Question Type : MCQ Option Shuffling : Yes
Correct Marks : 1 Wrong Marks : 0.25

From the given responses, find the missing letter in the series.

A I P V A E ?

Options :

1. ✘ F

2. ✘ G

3. ✔ H

4. ✘ I

Question Number : 1 Question Id : 54592724645 Question Type : MCQ Option Shuffling : Yes
Correct Marks : 1 Wrong Marks : 0.25

दिए गए विकल्पों में से श्रेणी में लुप्त अक्षर को ज्ञात करें:

A I P V A E ?

Options :

1. ✘ F

2. ✘ G

3. ✔ H

4. ✘ I

Question Number : 2 Question Id : 54592724646 Question Type : MCQ Option Shuffling : Yes
Correct Marks : 1 Wrong Marks : 0.25

Find out the next term:

1B1, 2D2, 3F3, 4H4, _____

Options :

1. ✖ 316

2. ✖ 613

3. ✖ 4J6

4. ✔ 5J5

Question Number : 2 Question Id : 54592724646 Question Type : MCQ Option Shuffling : Yes

Correct Marks : 1 Wrong Marks : 0.25

अगला पद ज्ञात करें:

1B1, 2D2, 3F3, 4H4, _____

Options :

1. ✖ 316

2. ✖ 613

3. ✖ 4J6

4. ✔ 5J5

Question Number : 3 Question Id : 54592724647 Question Type : MCQ Option Shuffling : Yes

Correct Marks : 1 Wrong Marks : 0.25

Find the wrong term in the series:

1E4, 9Y16, 4N10, 7Q14

Options :

1. ✖ 9Y16

2. ✖ 4N10

3. ✖ 1E4

4. ✓ 7Q14

Question Number : 3 Question Id : 54592724647 Question Type : MCQ Option Shuffling : Yes
Correct Marks : 1 Wrong Marks : 0.25

श्रृंखला में गलत पद खोजें:

1E4, 9Y16, 4N10, 7Q14

Options :

1. ✗ 9Y16

2. ✗ 4N10

3. ✗ 1E4

4. ✓ 7Q14

Question Number : 4 Question Id : 54592724648 Question Type : MCQ Option Shuffling : Yes
Correct Marks : 1 Wrong Marks : 0.25

Find the odd one out from the given alternatives.

Options :

1. ✗ Inch

2. ✗ Foot

3. ✗ Yard

4. ✓ Quart

Question Number : 4 Question Id : 54592724648 Question Type : MCQ Option Shuffling : Yes
Correct Marks : 1 Wrong Marks : 0.25

दिए गए विकल्पों में से विषम ज्ञात करें।

Options :

1. ✗ इंच

2. ✗ फुट

3. ✗ यार्ड

4. ✓ कुअर्ट

Question Number : 5 Question Id : 54592724649 Question Type : MCQ Option Shuffling : Yes
Correct Marks : 1 Wrong Marks : 0.25

Choose the odd group from the given alternatives.

Options :

1. ✖ LNMO
2. ✖ APBQ
3. ✖ EUFV
4. ✔ CRDT

Question Number : 5 Question Id : 54592724649 Question Type : MCQ Option Shuffling : Yes
Correct Marks : 1 Wrong Marks : 0.25

दिए गए विकल्पों से विषम समूह को चुनें।

Options :

1. ✖ LNMO
2. ✖ APBQ
3. ✖ EUFV
4. ✔ CRDT

Question Number : 6 Question Id : 54592724650 Question Type : MCQ Option Shuffling : Yes
Correct Marks : 1 Wrong Marks : 0.25

Choose the odd one from the given alternatives.

Options :

1. ✖ MK : NL
2. ✔ BC : FD
3. ✖ PN : QO
4. ✖ WU : XV

Question Number : 6 Question Id : 54592724650 Question Type : MCQ Option Shuffling : Yes
Correct Marks : 1 Wrong Marks : 0.25

दिए गए विकल्पों में से विषम को चुनिए।

Options :

1. ✖ MK : NL

2. ✔ BC : FD

3. ✖ PN : QO

4. ✖ WU : XV

Question Number : 7 Question Id : 54592724651 Question Type : MCQ Option Shuffling : Yes

Correct Marks : 1 Wrong Marks : 0.25

In the following question, select the related letter / word / number from the given alternatives.

TICKET : ADMISSION :: Money: _____

Options :

1. ✖ book

2. ✖ moral

3. ✖ collar

4. ✔ luxuries

Question Number : 7 Question Id : 54592724651 Question Type : MCQ Option Shuffling : Yes

Correct Marks : 1 Wrong Marks : 0.25

निम्नलिखित प्रश्न में दिए गए विकल्पों में से सम्बन्धित अक्षर / शब्द / संख्या को चुनिए।

टिकट: प्रवेश :: पैसा : _____

Options :

1. ✖ पुस्तक

2. ✖ नैतिक

3. ✖ कॉलर

4. ✔ विलासिता

Question Number : 8 Question Id : 54592724652 Question Type : MCQ Option Shuffling : Yes
Correct Marks : 1 Wrong Marks : 0.25

In the following question, select the related letter / word / number from the given alternatives.

Wizard : Magic :: _____ : _____

Options :

1. * Fiery : acquiver
2. * Water : sailing
3. ✓ Embezzler : fraud
4. * Huckster : thievery

Question Number : 8 Question Id : 54592724652 Question Type : MCQ Option Shuffling : Yes
Correct Marks : 1 Wrong Marks : 0.25

निम्नलिखित प्रश्न में दिए गए विकल्पों में से सम्बन्धित अक्षर / शब्द / संख्या को चुनिए।

जादूगर : जादु : : _____ : _____

Options :

1. * भयानक : प्राप्तकर्ता
2. * जल : नौकायन
3. ✓ गबन : धोखाधड़ी
4. * बनिया : चोरी

Question Number : 9 Question Id : 54592724653 Question Type : MCQ Option Shuffling : Yes
Correct Marks : 1 Wrong Marks : 0.25

In the following question, select the related letter / word / number from the given alternatives.

BDFH: CEGI: : UWYA: _____

Options :

1. ✖ HRFR

2. ✔ VXZB

3. ✖ RBDA

4. ✖ KBLI

Question Number : 9 Question Id : 54592724653 Question Type : MCQ Option Shuffling : Yes

Correct Marks : 1 Wrong Marks : 0.25

निम्नलिखित प्रश्न में दिए गए विकल्पों में से सम्बन्धित अक्षर / शब्द / संख्या को चुनिए।

BDEJ : FLOD :: FIAC : _____

Options :

1. ✖ HRFR

2. ✔ VXZB

3. ✖ RBDA

4. ✖ KBLI

Question Number : 10 Question Id : 54592724654 Question Type : MCQ Option Shuffling : Yes

Correct Marks : 1 Wrong Marks : 0.25

In a certain code language BREAK, is written as 51342 and KITES is written as 27968. How will RIBS be written in that code language?

Options :

1. ✔ 1758

2. ✖ 1786

3. ✖ 1859

4. ✖ 1354

Question Number : 10 Question Id : 54592724654 Question Type : MCQ Option Shuffling : Yes

Correct Marks : 1 Wrong Marks : 0.25

किसी निश्चित कूट भाषा में, BREAK, को लिखते हैं 51342 और KITES को लिखते हैं 27968. उस कूट भाषा में RIBS कैसे लिखा जाएगा?

Options :

1. ✓ 1758
2. ✗ 1786
3. ✗ 1859
4. ✗ 1354

Question Number : 11 Question Id : 54592724655 Question Type : MCQ Option Shuffling : Yes
Correct Marks : 1 Wrong Marks : 0.25

In a certain code, language Bread is called Butter, Butter is called Milk, Milk is called Shirt, Shirt is called Shoe, Shoe is called Bicycle, Bicycle is called Watch, Watch is called Aeroplane and Aeroplane is called Ship, then which of the following indicates time in that language?

Options :

1. ✗ Watch
2. ✗ Bicycle
3. ✗ Milk
4. ✓ Aeroplane

Question Number : 11 Question Id : 54592724655 Question Type : MCQ Option Shuffling : Yes
Correct Marks : 1 Wrong Marks : 0.25

एक निश्चित कूट भाषा में, ब्रेड को मक्खन, मक्खनको दूध, दूध को कमीज, कमीज को जूता, जूता को साइकल, साइकिल को घड़ी, घड़ी को विमान और विमान को जहाज कहा जाता है, तो उस कूट भाषा में जो समय को दर्शाता है उसे क्या कहा जाता है?

Options :

1. ✖ घड़ी
2. ✖ साइकिल
3. ✖ दूध
4. ✔ विमान

Question Number : 12 Question Id : 54592724656 Question Type : MCQ Option Shuffling : Yes
Correct Marks : 1 Wrong Marks : 0.25

In a certain code, the following language is used:

“Adjacent School always not” is coded as “Dsk Mnt Pqs Frm”

“Always wait required admission” is coded as “Pqs Jrk Bgf
Ams”

“required school needs reputation” is coded as “Bgf Mnt Reg
Wor”

“needs reputation Adjacent with” is coded as “Reg Wor Dsk
Glm”.

Answer the following questions:

What will be the code for “Not”?

Options :

1. ✔ Frm
2. ✖ Glm
3. ✖ Pqs
4. ✖ Dsk

Question Number : 12 Question Id : 54592724656 Question Type : MCQ Option Shuffling : Yes
Correct Marks : 1 Wrong Marks : 0.25

एक निश्चित कूट में, निम्नलिखित भाषा का उपयोग किया जाता है:

“Adjacent School always not” को “Dsk Mnt Pqs Frm” के रूप में कोडित किया गया है।

“Always wait required admission” को “Pqs Jrk Bgf Ams” के रूप में कोडित किया गया है।

“required school needs reputation” को “Bgf Mnt Reg Wor” के रूप में कोडित किया गया है।

“needs reputation Adjacent with” को “Reg Wor Dsk Glm” के रूप में कोडित किया गया है।

निम्नलिखित प्रश्नों के उत्तर दो:

"Not" के लिए कूट क्या होगा?

Options :

1. ✓ Frm
2. ✗ Glm
3. ✗ Pqs
4. ✗ Dsk

Question Number : 13 Question Id : 54592724657 Question Type : MCQ Option Shuffling : Yes

Correct Marks : 1 Wrong Marks : 0.25

Five boys are standing in a circle. Ajay is between Ramesh and Dev, Salman is to the left of Babu. Ramesh is to the left of Salman. Who is to the right of Ajay?

Options :

1. ✗ Babu
2. ✓ Ramesh

3. * Dev

4. * Salman

Question Number : 13 Question Id : 54592724657 Question Type : MCQ Option Shuffling : Yes

Correct Marks : 1 Wrong Marks : 0.25

पांच लड़के एक वृत्त में खड़े हैं। अजय रमेश और देव के बीच में है, सलमान, बाबू के बाईं ओर है। रमेश सलमान के बाईं ओर है। अजय के दायीं ओर कौन है?

Options :

1. * बाबू

2. ✓ रमेश

3. * देव

4. * सलमान

Question Number : 14 Question Id : 54592724658 Question Type : MCQ Option Shuffling : Yes

Correct Marks : 1 Wrong Marks : 0.25

Five persons P, Q, R, S and T, who are of different weights, are comparing their weights. R is heavier than at least two other persons and S is lighter than at least three other persons. None among R, S and T is either the heaviest or the lightest. T is not heavier than R. If P is heavier than Q, then who is the third heaviest among them?

Options :

1. * R

2. * S

3. ✓ T

4. * P

Question Number : 14 Question Id : 54592724658 Question Type : MCQ Option Shuffling : Yes

Correct Marks : 1 Wrong Marks : 0.25

पांच व्यक्ति P, Q, R, S और T, जो अलग-अलग वजन के हैं, उनके वजन की तुलना कर रहे हैं। R, कम से कम दो अन्य व्यक्तियों से भारी है और S कम से कम तीन अन्य व्यक्तियों की तुलना में हल्का है। R, S और T में से कोई भी सबसे भारी या हल्का नहीं है। T, R से भारी नहीं है। यदि P, Q से भारी है, तो उनमें से तीसरा सबसे भारी कौन है?

Options :

1. ✘ R
2. ✘ S
3. ✔ T
4. ✘ P

Question Number : 15 Question Id : 54592724659 Question Type : MCQ Option Shuffling : Yes

Correct Marks : 1 Wrong Marks : 0.25

In a row of 16 boys, when Prakash was shifted by two places towards the left, he became 7th from the left end. What was his earlier position from the right end of the row?

Options :

1. ✘ 7th
2. ✔ 8th
3. ✘ 9th
4. ✘ 10th

Question Number : 15 Question Id : 54592724659 Question Type : MCQ Option Shuffling : Yes

Correct Marks : 1 Wrong Marks : 0.25

16 लड़कों की एक पंक्ति में, जब प्रकाश को बाईं ओर दो स्थानों पर स्थानांतरित किया गया, तो वह बाएं छोर से 7 वें स्थान पर आ गया। पंक्ति की दाईं ओर उसकी पूर्व स्थिति क्या थी?

Options :

1. ✖ 7वां

2. ✔ 8वां

3. ✖ 9वां

4. ✖ 10वां

Question Number : 16 Question Id : 54592724660 Question Type : MCQ Option Shuffling : Yes

Correct Marks : 1 Wrong Marks : 0.25

There are five men J, K, L, M and N and six ladies F, G, H, O, W and X, J, K and H lawyers:

L, M, F, G and O are dentists and the rest are professors. We have to select a team from these eleven persons subject to the following condition

There must be 3 ladies and 3 men. And two persons must be there from each profession.

J, F and X have to be together.

K cannot go with M or H.

N and G have to be together.

L and W have to be together.

M and F cannot go together.

L cannot go with G.

If the team is to consist of two advocates, two doctors, two teachers and not more than three ladies, the members of the team are:

Which group of ladies are in the selected team?

Options :

1. ✓ F, G, X

2. ✗ F, H, O

3. ✗ G, W, X

4. ✗ H, W, X

Question Number : 16 Question Id : 54592724660 Question Type : MCQ Option Shuffling : Yes
Correct Marks : 1 Wrong Marks : 0.25

पांच पुरुष हैं J, K, L, M और N और छह महिलाएं F, G, H, O, W और X, J, K और H वकील:

L, M, F, G और O दंत चिकित्सक हैं और बाकी प्रोफेसर हैं। हमें इन ग्यारह व्यक्तियों में से एक टीम का चयन करना होगा जो निम्न स्थिति के अधीन होगा-

3 महिलाएं और 3 पुरुष होने चाहिए। और प्रत्येक पेशे से दो व्यक्ति होने चाहिए।

J, F और X को एक साथ होना है।

K, M या H के साथ नहीं जा सकता।

N और G को एक साथ होना है।

L और W को एक साथ होना है।

M और F एक साथ नहीं जा सकते।

L, G के साथ नहीं जा सकता।

चयनित टीम में महिलाओं का कौन सा समूह है?

Options :

1. ✓ F, G, X

2. * F, H, O

3. * G, W, X

4. * H, W, X

Question Number : 17 Question Id : 54592724661 Question Type : MCQ Option Shuffling : Yes
Correct Marks : 1 Wrong Marks : 0.25

Mathew told his friend Sham, pointing to a photograph. "Her father is the only son of my mother. "The photograph is of whom?

Options :

1. * Mathew's niece

2. * Mathew's mother

3. ✓ Mathew's daughter

4. * Mathew's sister

Question Number : 17 Question Id : 54592724661 Question Type : MCQ Option Shuffling : Yes
Correct Marks : 1 Wrong Marks : 0.25

मैथ्यू ने अपने दोस्त शाम से, एक तस्वीर पर इशारा करते हुए कहा "इस लड़की के पिता मेरी माता के इकलौते पुत्र हैं।" तस्वीर किसकी है?

Options :

1. * मैथ्यू की भतीजी

2. * मैथ्यू की माता

3. ✓ मैथ्यू की पुत्री

4. * मैथ्यू की बहन

Question Number : 18 Question Id : 54592724662 Question Type : MCQ Option Shuffling : Yes
Correct Marks : 1 Wrong Marks : 0.25

In the question below, there are two statements followed by three conclusions. You have to take the given statements to be true even if they seem to be at variance with commonly known facts and then decide which of the given conclusion logically follow(s) from the given statements.

Statements:

- I. All pencils are bricks.
- II. All bricks are bottles.

Conclusions:

- I. All pencils are bottles.
- II. All bricks are pencils.
- III. No brick is bottle.

Options :

- 1. ✓ If only conclusion I is true
- 2. ✖ If only conclusion II is true
- 3. ✖ If conclusion I and II follow.
- 4. ✖ If conclusion I and III follow.

Question Number : 18 Question Id : 54592724662 Question Type : MCQ Option Shuffling : Yes
Correct Marks : 1 Wrong Marks : 0.25

नीचे दिए गए प्रश्न में दो कथन और उसके बाद तीन निष्कर्ष दिए गए हैं। आपको दिए गए कथनों को सत्य मानना है भले ही वे सर्वज्ञात तथ्यों से भिन्न प्रतीत होते हों। सभी निष्कर्षों को पढ़िए फिर तय कीजिए कि दिए गए निष्कर्षों में से कौन सा तर्कसंगत रूप से अनुसरण करता है, चाहे सर्वज्ञात तथ्य कुछ भी हों।

कथन:

- I. सभी पेंसिल, ईट हैं।
- II. सभी ईट, बोतल हैं।

निष्कर्ष:

- I. सभी पेंसिल, बोतल हैं।
- II. सभी, ईट, पेंसिल हैं।
- III. कोई ईट बोतल नहीं है।

Options :

1. ✓ यदि केवल निष्कर्ष I सत्य है
2. * यदि केवल निष्कर्ष II सत्य है
3. * यदि निष्कर्ष I और II सत्य हैं।
4. * यदि निष्कर्ष I और III सत्य हैं।

Question Number : 19 Question Id : 54592724663 Question Type : MCQ Option Shuffling : Yes
Correct Marks : 1 Wrong Marks : 0.25

For the Assertion (A) and Reason (R) given below, choose the correct alternative from the following:

Assertion (A): Boiling point of freshwater is higher than that of seawater.

Reason (R): Freshwater contains lot of impurities.

Options :

1. * Both (A) and (R) are true and (R) is the correct explanation of (A)
2. * Both (A) and (R) are true, but (R) is not the correct explanation of (A)
3. * (A) is true, but (R) is false
4. ✓ (A) is false, but (R) is true

Question Number : 19 Question Id : 54592724663 Question Type : MCQ Option Shuffling : Yes

Correct Marks : 1 Wrong Marks : 0.25

नीचे दिए गए दावे (ए) और कारण (आर) के लिए, निम्नलिखित में से सही विकल्प चुनें:

दावे: ताजे पानी का क्वथनांक समुद्री जल की तुलना में अधिक होता है।

कारण: ताजे पानी में बहुत सारी अशुद्धियाँ होती हैं।

Options :

1. * दोनों (A) और (R) सही हैं और (R) (A) की सही व्याख्या है
2. * दोनों (A) और (R) सच हैं, लेकिन (R) (A) का सही स्पष्टीकरण नहीं है
3. * (A) सच है, लेकिन (R) गलत है
4. ✓ (A) गलत है, लेकिन (R) सच है

Question Number : 20 Question Id : 54592724664 Question Type : MCQ Option Shuffling : Yes

Correct Marks : 1 Wrong Marks : 0.25

Complete the following series:

3, 8, 22, 90, ?

Options :

1. ✖ 324

2. ✔ 448

3. ✖ 442

4. ✖ 350

Question Number : 20 Question Id : 54592724664 Question Type : MCQ Option Shuffling : Yes

Correct Marks : 1 Wrong Marks : 0.25

निम्नलिखित श्रृंखला को पूरा करें:

3, 8, 22, 90, ?

Options :

1. ✖ 324

2. ✔ 448

3. ✖ 442

4. ✖ 350

Mental Ability2

Group Number :	2
Group Id :	5459271222
Group Maximum Duration :	0
Group Minimum Duration :	0
Show Attended Group? :	No
Edit Attended Group? :	No
Break time:	0
Group Marks:	20
Is this Group for Examiner?:	No
Revisit allowed for group Instructions? :	Yes
Maximum Instruction Time:	0
Minimum Instruction Time:	0

Mental Ability2

Section Id :	5459271222
Section Number :	1
Section type :	Online
Mandatory or Optional:	Mandatory
Number of Questions:	20
Number of Questions to be attempted:	20
Section Marks:	20

Sub-Section Number:	1
Sub-Section Id:	5459271466
Question Shuffling Allowed :	Yes

Question Number : 21 Question Id : 54592724665 Question Type : MCQ Option Shuffling : Yes
Correct Marks : 1 Wrong Marks : 0.25

Find the wrong term in the given series:

2, 5, 9, 14, 21, 27

Options :

1. ✖ 5

2. ✖ 14

3. ✔ 21

4. ✖ 27

Question Number : 21 Question Id : 54592724665 Question Type : MCQ Option Shuffling : Yes
Correct Marks : 1 Wrong Marks : 0.25

दी गई श्रृंखला में गलत पद ज्ञात करें:

2, 5, 9, 14, 21, 27

Options :

1. ✖ 5

2. ✖ 14

3. ✓ 21

4. ✗ 27

Question Number : 22 Question Id : 54592724666 Question Type : MCQ Option Shuffling : Yes
Correct Marks : 1 Wrong Marks : 0.25

Choose the odd one from the given options:

Options :

1. ✗ 98765

2. ✓ 98756

3. ✗ 987654

4. ✗ 9876543

Question Number : 22 Question Id : 54592724666 Question Type : MCQ Option Shuffling : Yes
Correct Marks : 1 Wrong Marks : 0.25

दिए गए विकल्पों में से भिन्न संख्या को चुनें।

Options :

1. ✗ 98765

2. ✓ 98756

3. ✗ 987654

4. ✗ 9876543

Question Number : 23 Question Id : 54592724667 Question Type : MCQ Option Shuffling : Yes
Correct Marks : 1 Wrong Marks : 0.25

Choose the odd numeral pair / group in each of the following questions:

Options :

1. ✗ 81 - 45

2. ✗ 21-33

3. ✗ 51 - 27

4. ✓ 50 - 64

Question Number : 23 Question Id : 54592724667 Question Type : MCQ Option Shuffling : Yes
Correct Marks : 1 Wrong Marks : 0.25

प्रत्येक निम्नलिखित प्रश्नों में विषम संख्या वाले युग्म / समूह को चुनिए:

Options :

1. ✖ 81 - 45
2. ✖ 21-33
3. ✖ 51 - 27
4. ✔ 50 - 64

Question Number : 24 Question Id : 54592724668 Question Type : MCQ Option Shuffling : Yes
Correct Marks : 1 Wrong Marks : 0.25

Choose the odd numeral pair / group in each of the following questions:

Options :

1. ✖ 77 - 64 - 141
2. ✖ 43 - 30 - 73
3. ✖ 82 - 69 - 151
4. ✔ 61- 45 - 105

Question Number : 24 Question Id : 54592724668 Question Type : MCQ Option Shuffling : Yes
Correct Marks : 1 Wrong Marks : 0.25

प्रत्येक निम्नलिखित प्रश्नों में विषम संख्या वाले युग्म / समूह को चुनिए:

Options :

1. ✖ 77 - 64 - 141
2. ✖ 43 - 30 - 73
3. ✖ 82 - 69 - 151
4. ✔ 61- 45 - 105

Question Number : 25 Question Id : 54592724669 Question Type : MCQ Option Shuffling : Yes
Correct Marks : 1 Wrong Marks : 0.25

In the following question, select the related letter / word / number from the given alternatives:

(420, 256, 338)

Options :

1. ✖ (216, 320, 276)
2. ✖ (216, 320, 272)
3. ✔ (216, 320, 268)
4. ✖ (216,318,268)

Question Number : 25 Question Id : 54592724669 Question Type : MCQ Option Shuffling : Yes
Correct Marks : 1 Wrong Marks : 0.25

निम्नलिखित प्रश्न में दिए गए विकल्पों में से सम्बन्धित अक्षर / शब्द / संख्या को चुनिए:

(420, 256, 338)

Options :

1. ✖ (216, 320, 276)
2. ✖ (216, 320, 272)
3. ✔ (216, 320, 268)
4. ✖ (216,318,268)

Question Number : 26 Question Id : 54592724670 Question Type : MCQ Option Shuffling : Yes
Correct Marks : 1 Wrong Marks : 0.25

Find out missing number from the following given figure.



Options :

1. ✖ 28
2. ✔ 30
3. ✖ 35
4. ✖ 27

Question Number : 26 Question Id : 54592724670 Question Type : MCQ Option Shuffling : Yes

Correct Marks : 1 Wrong Marks : 0.25

निम्नलिखित दिए गए विकल्पों में से लुप्त संख्या ज्ञात कीजिए।



Options :

1. ✖ 28
2. ✔ 30
3. ✖ 35
4. ✖ 27

Question Number : 27 Question Id : 54592724671 Question Type : MCQ Option Shuffling : Yes

Correct Marks : 1 Wrong Marks : 0.25

If '@' means 'x', 'C' means '÷', % means (+) and '\$' means '-', then $6\%12C3@8 \$ 3=?$

Options :

1. ✖ 37

2. ✔ 35

3. ✖ 39

4. ✖ 33

Question Number : 27 Question Id : 54592724671 Question Type : MCQ Option Shuffling : Yes

Correct Marks : 1 Wrong Marks : 0.25

यदि: '@' का अर्थ 'x', 'C' का अर्थ '÷' है, % का अर्थ (+) और '\$' का अर्थ - है, तो $6\%12C3@8 \$ 3=?$

Options :

1. ✖ 37

2. ✔ 35

3. ✖ 39

4. ✖ 33

Question Number : 28 Question Id : 54592724672 Question Type : MCQ Option Shuffling : Yes

Correct Marks : 1 Wrong Marks : 0.25

In the question given below, there is a statement followed by two conclusions. You have to take the given statement to be true even if they seem to be at variance with commonly known facts and then decide which of the given conclusion logically follow(s) from the given statements.

Statements:

$$I. G > R \geq E = A \leq T \leq S$$

Conclusions:

$$I. E > G$$

$$II. A \leq S$$

Options :

1. ✓ Only conclusion II is true

2. ✗ Only conclusion I is true

3. ✗ Either conclusion I or II is true

4. ✗ Neither conclusion I nor II is true

Question Number : 28 Question Id : 54592724672 Question Type : MCQ Option Shuffling : Yes

Correct Marks : 1 Wrong Marks : 0.25

नीचे दिए गए प्रश्न में, एक कथन के बाद दो निष्कर्ष हैं। आपको दिए गए कथन को सत्य मानना है, भले ही वे आम तौर पर ज्ञात तथ्यों के साथ विचरण करते हों और फिर तय करें कि दिए गए कथन में से कौन सा निष्कर्ष तार्किक रूप से अनुसरण करता है।

कथन:

$$I. G > R \geq E = A \leq T \leq S$$

निष्कर्ष:

$$I. E > G$$

$$II. A \leq S$$

Options :

1. ✓ केवल निष्कर्ष II सत्य है
2. ✗ केवल निष्कर्ष I सत्य है
3. ✗ या तो निष्कर्ष I या II सत्य है
4. ✗ न तो निष्कर्ष I और न ही II सत्य है

Question Number : 29 Question Id : 54592724673 Question Type : MCQ Option Shuffling : Yes
Correct Marks : 1 Wrong Marks : 0.25

Find the wrong term in the given series:

2, 3, 5, 8, 17, 34

Options :

1. ✗ 34
2. ✗ 17
3. ✓ 8
4. ✗ 5

Question Number : 29 Question Id : 54592724673 Question Type : MCQ Option Shuffling : Yes
Correct Marks : 1 Wrong Marks : 0.25

दी गई श्रृंखला में गलत पद ज्ञात करें:

2, 3, 5, 8, 17, 34

Options :

1. ✖ 34

2. ✖ 17


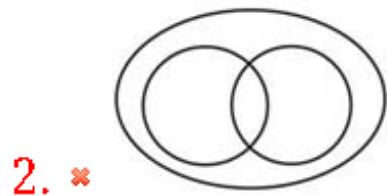
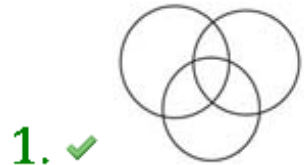
3. ✔ 8

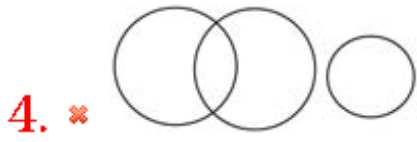
4. ✖ 5

Question Number : 30 Question Id : 54592724674 Question Type : MCQ Option Shuffling : Yes
Correct Marks : 1 Wrong Marks : 0.25

Which of the following diagrams best represents a relationship among Men, Indian and Writer?

Options :

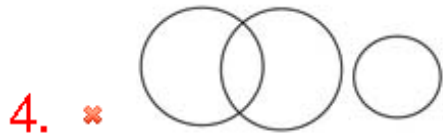
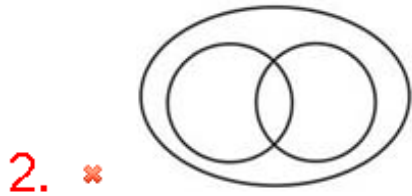




Question Number : 30 Question Id : 54592724674 Question Type : MCQ Option Shuffling : Yes
Correct Marks : 1 Wrong Marks : 0.25

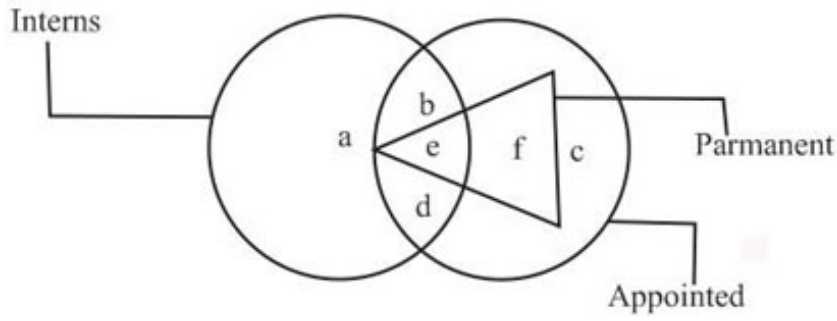
निम्नलिखित में से कौन सा चित्र पुरुष, भारतीय और लेखक के बीच संबंध का प्रतिनिधित्व करता है?

Options :



Question Number : 31 Question Id : 54592724675 Question Type : MCQ Option Shuffling : Yes
Correct Marks : 1 Wrong Marks : 0.25

Which one of the following set represents Interns who are appointed but not have permanent jobs?

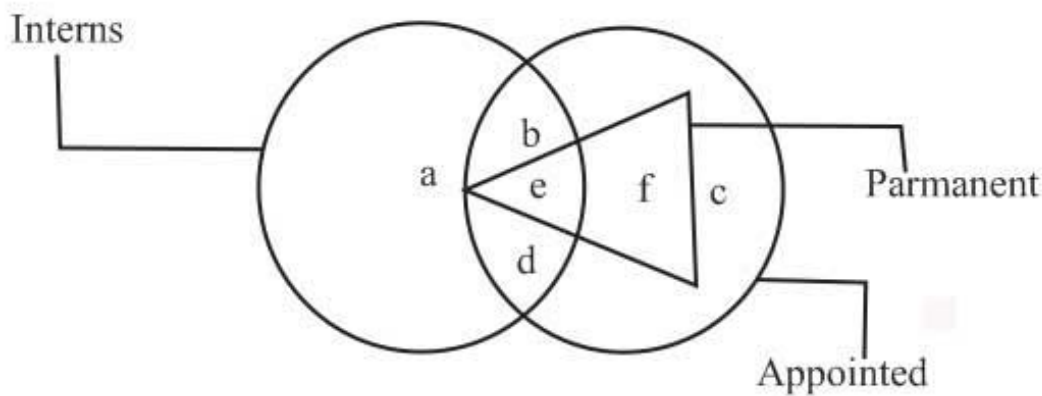


Options :

1. ✓ b and d
2. ✗ b and f
3. ✗ d, e and f
4. ✗ e and f

Question Number : 31 Question Id : 54592724675 Question Type : MCQ Option Shuffling : Yes
Correct Marks : 1 Wrong Marks : 0.25

निम्नलिखित में से कौन से प्रशिक्षु का प्रतिनिधित्व करता है जिसकी नियुक्ति है लेकिन स्थायी नौकरी नहीं है?



Options :

1. ✓ b और d
2. ✗ b और f
3. ✗ d, e और f

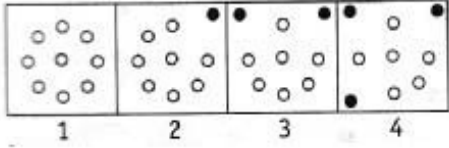
4. * e और f

Question Number : 32 Question Id : 54592724676 Question Type : MCQ Option Shuffling : Yes


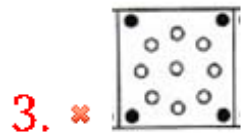
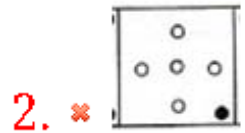

Correct Marks : 1 Wrong Marks : 0.25

Complete the series by choosing right figure from the given choices.

Problem Figures



Options :

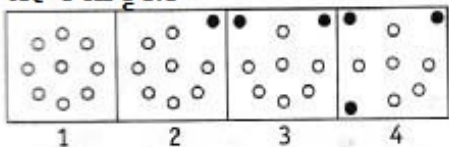


Question Number : 32 Question Id : 54592724676 Question Type : MCQ Option Shuffling : Yes



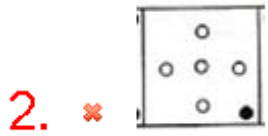

Correct Marks : 1 Wrong Marks : 0.25

दिए गए विकल्पों में से सही उत्तर चुनकर श्रृंखला को पूरा करें।

प्रश्न आकृति

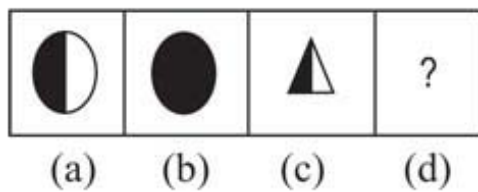


Options :



Question Number : 33 Question Id : 54592724677 Question Type : MCQ Option Shuffling : Yes
Correct Marks : 1 Wrong Marks : 0.25

Complete the series by choosing right figure from the given choices.



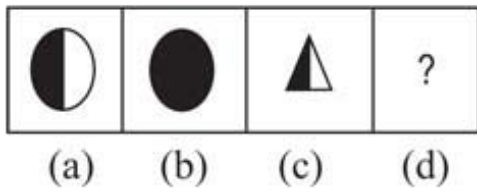
Options :





Question Number : 33 Question Id : 54592724677 Question Type : MCQ Option Shuffling : Yes
Correct Marks : 1 Wrong Marks : 0.25

दिए गए विकल्पों में से सही उत्तर चुनकर श्रृंखला को पूरा करें।












Options :



Question Number : 34 Question Id : 54592724678 Question Type : MCQ Option Shuffling : Yes
Correct Marks : 1 Wrong Marks : 0.25

Find the missing figure in the given matrix.










		
		
		

Options :



Question Number : 34 Question Id : 54592724678 Question Type : MCQ Option Shuffling : Yes
 Correct Marks : 1 Wrong Marks : 0.25

दिए गए मैट्रिक्स में लुप्त आकृति ज्ञात कीजिए।

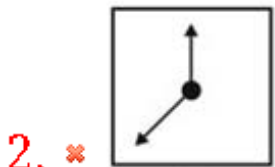
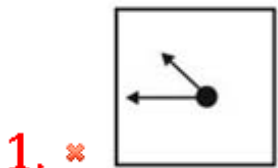
Options :

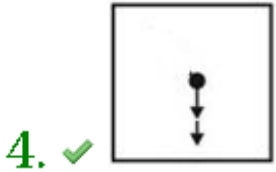
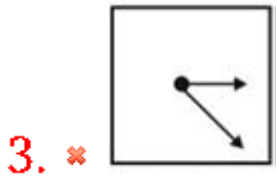


Question Number : 35 Question Id : 54592724679 Question Type : MCQ Option Shuffling : Yes
Correct Marks : 1 Wrong Marks : 0.25

Three of the four figures are in a sequence or similarity in some way or the other. You have to choose the figure which is odd /different:

Options :

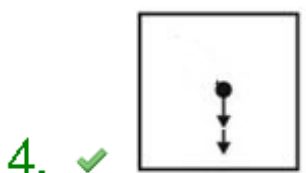
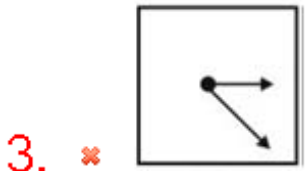
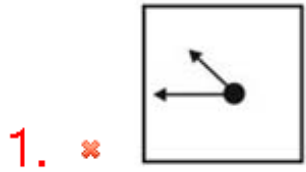




Question Number : 35 Question Id : 54592724679 Question Type : MCQ Option Shuffling : Yes
Correct Marks : 1 Wrong Marks : 0.25

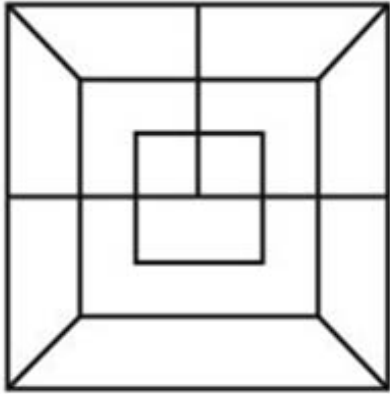
निम्नलिखित चार चित्रों में से तीन में एक समानता है। आपको वह आकृति चुननी है जो विषम / भिन्न हो।

Options :



Question Number : 36 Question Id : 54592724680 Question Type : MCQ Option Shuffling : Yes
Correct Marks : 1 Wrong Marks : 0.25

How many squares are there in the following figure?

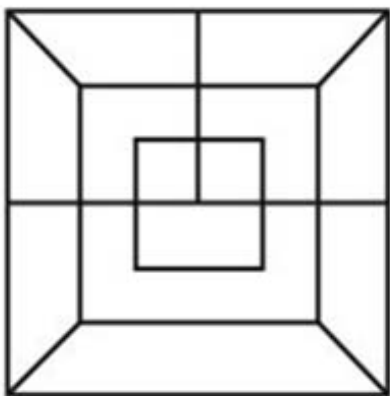


Options :

- 1. ✖ 5
- 2. ✔ 9
- 3. ✖ 7
- 4. ✖ 8

Question Number : 36 Question Id : 54592724680 Question Type : MCQ Option Shuffling : Yes
Correct Marks : 1 Wrong Marks : 0.25

निम्नलिखित आकृति में कितने वर्ग हैं?



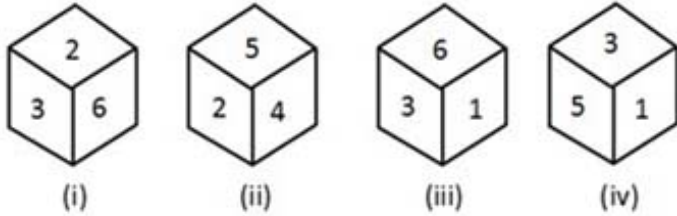
Options :

- 1. ✖ 5
- 2. ✔ 9
- 3. ✖ 7

4. ✖ 8

Question Number : 37 Question Id : 54592724681 Question Type : MCQ Option Shuffling : Yes
Correct Marks : 1 Wrong Marks : 0.25

Which number is opposite 3, if four different positions of a dice are as shown below?



Options :

1. ✖ 6

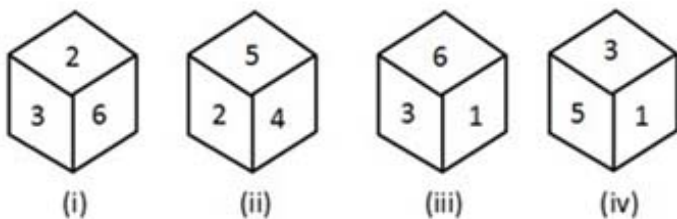
2. ✓ 4

3. ✖ 3

4. ✖ 2

Question Number : 37 Question Id : 54592724681 Question Type : MCQ Option Shuffling : Yes
Correct Marks : 1 Wrong Marks : 0.25

कौन सी संख्या 3 के विपरीत है, यदि एक पासा के चार अलग-अलग स्थान नीचे दिखाए गए हैं?



Options :

1. ✖ 6

2. ✓ 4

3. ✖ 3

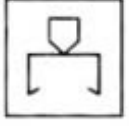
4. ✖ 2

Question Number : 38 Question Id : 54592724682 Question Type : MCQ Option Shuffling : Yes

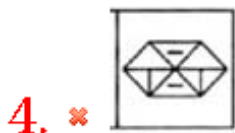
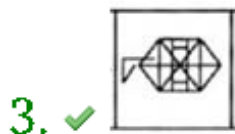
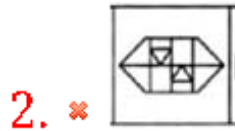
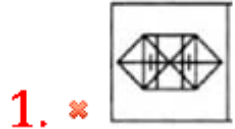
Correct Marks : 1 Wrong Marks : 0.25

In the given question find the answer figure in which question figure is embedded.

Question Figure



Options :




Question Number : 38 Question Id : 54592724682 Question Type : MCQ Option Shuffling : Yes

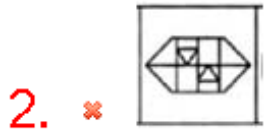
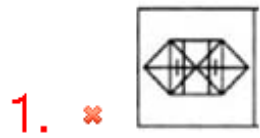
Correct Marks : 1 Wrong Marks : 0.25

दिए गए प्रश्न में उत्तर आकृति ज्ञात कीजिए जिसमें प्रश्न आकृति सन्निहित है।

प्रश्न आकृति



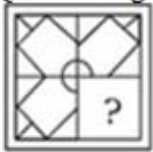
Options :



Question Number : 39 Question Id : 54592724683 Question Type : MCQ Option Shuffling : Yes
Correct Marks : 1 Wrong Marks : 0.25

Which answer figure will complete the pattern in the question figure?

Question Figure



Options :





Question Number : 39 Question Id : 54592724683 Question Type : MCQ Option Shuffling : Yes
Correct Marks : 1 Wrong Marks : 0.25

कौन सी उत्तर आकृति प्रश्न आकृति में पैटर्न को पूरा करेगी?

प्रश्न आकृति



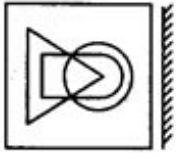
Options :



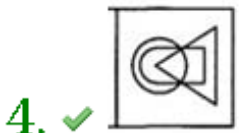
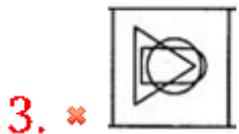
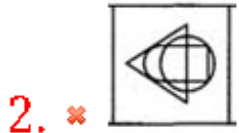
Question Number : 40 Question Id : 54592724684 Question Type : MCQ Option Shuffling : Yes
Correct Marks : 1 Wrong Marks : 0.25

Which of the following choices is the exact mirror image of the main figure.

Main Figure



Options :



Question Number : 40 Question Id : 54592724684 Question Type : MCQ Option Shuffling : Yes

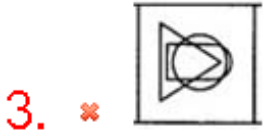
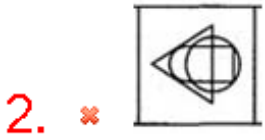
Correct Marks : 1 Wrong Marks : 0.25

निम्नलिखित में से कौन सा विकल्प मुख्य आकृति की सटीक दर्पण छवि है?

प्रश्न आकृति



Options :



General Awareness1

Group Number :	3
Group Id :	5459271223
Group Maximum Duration :	0
Group Minimum Duration :	0
Show Attended Group? :	No
Edit Attended Group? :	No
Break time:	0
Group Marks:	20
Is this Group for Examiner?:	No
Revisit allowed for group Instructions? :	Yes
Maximum Instruction Time:	0
Minimum Instruction Time:	0

General Awareness1

Section Id :	5459271223
Section Number :	1
Section type :	Online
Mandatory or Optional:	Mandatory
Number of Questions:	20
Number of Questions to be attempted:	20

Sub-Section Number:

1

Sub-Section Id:

5459271467

Question Shuffling Allowed :

Yes

Question Number : 41 Question Id : 54592724685 Question Type : MCQ Option Shuffling : Yes

Correct Marks : 1 Wrong Marks : 0.25

Which of the following dance forms was introduced in the 15th century A.D by the great Vaishnava saint and reformer of Assam, Mahapurusha Sankaradeva?

Options :

1. ✖ Odissi
2. ✔ Sattriya
3. ✖ Mohiniyattam
4. ✖ Kathak

Question Number : 41 Question Id : 54592724685 Question Type : MCQ Option Shuffling : Yes

Correct Marks : 1 Wrong Marks : 0.25

15वीं शताब्दी ईस्वी में निम्नलिखित में से कौन से नृत्य का रूप महान वैष्णव संत और असम के सुधारक, महापुरुष शंकरदेव द्वारा पेश किया गया था?

Options :

1. ✖ ओडिसी
2. ✔ सतरिया
3. ✖ मोहिनीअट्टम
4. ✖ कथक

Question Number : 42 Question Id : 54592724686 Question Type : MCQ Option Shuffling : Yes

Correct Marks : 1 Wrong Marks : 0.25

Who out of the following is known as “Carnatic Sangeeta Pitamaha”?

Options :

1. ✓ Purandaradasa
2. ✘ Krishnadevaraya
3. ✘ Haripala
4. ✘ Bhadra-chalam Ramdas

Question Number : 42 Question Id : 54592724686 Question Type : MCQ Option Shuffling : Yes
Correct Marks : 1 Wrong Marks : 0.25

निम्नलिखित में से किसे "कर्नाटक संगीता पितामह" के नाम से जाना जाता है?

Options :

1. ✓ पुरंदरदासा
2. ✘ कृष्णदेवराय
3. ✘ हरिपाल
4. ✘ भद्रा-चलम रामदासा

Question Number : 43 Question Id : 54592724687 Question Type : MCQ Option Shuffling : Yes
Correct Marks : 1 Wrong Marks : 0.25

Which of the following is the biggest festival of the state of Odisha?

Options :

1. ✘ Durga Puja
2. ✘ Ganesh Puja
3. ✓ Rathayatra
4. ✘ Karthikai Deepam

Question Number : 43 Question Id : 54592724687 Question Type : MCQ Option Shuffling : Yes
Correct Marks : 1 Wrong Marks : 0.25

निम्नलिखित में से कौन सा ओडिशा राज्य का सबसे बड़ा त्योहार है?

Options :

1. ✘ दुर्गा पूजा

2. ✖ गणेश पूजा

3. ✔ रथयात्रा

4. ✖ कार्तिकई दीपम

Question Number : 44 Question Id : 54592724688 Question Type : MCQ Option Shuffling : Yes
Correct Marks : 1 Wrong Marks : 0.25

The Basilica of Bom Jesus is in ____ (i) ____, along the coast of river ____ (ii) ____

Options :

1. ✖ (i) Ahmedabad (ii) Sabarmati

2. ✖ (i) Delhi (ii) Yamuna

3. ✖ (i) Kolkata (ii) Hooghly

4. ✔ (i) Goa (ii) Mandovi

Question Number : 44 Question Id : 54592724688 Question Type : MCQ Option Shuffling : Yes
Correct Marks : 1 Wrong Marks : 0.25

बेसिलिका ऑफ बोम जीसस (i) _____ में, (ii) _____ के नदी के तट के साथ है।

Options :

1. ✖ (i) अहमदाबाद (ii) साबरमती

2. ✖ (i) दिल्ली (ii) यमुना

3. ✖ (i) कोलकाता (ii) हुगली

4. ✔ (i) गोवा (ii) मंडोवी

Question Number : 45 Question Id : 54592724689 Question Type : MCQ Option Shuffling : Yes
Correct Marks : 1 Wrong Marks : 0.25

How much surcharge hike has been introduced in the Union Budget 2019 for calculating income tax on an income of Rs. 2 crore to 5 crore per annum?

Options :

1. ✖ 0.015

2. ✔ 0.03

3. ✖ 0.05

4. ✖ 0.07

Question Number : 45 Question Id : 54592724689 Question Type : MCQ Option Shuffling : Yes
Correct Marks : 1 Wrong Marks : 0.25

केंद्रीय बजट 2019 में 2 करोड़ से 5 करोड़ रुपये प्रतिवर्ष की आय पर आयकर की गणना के लिए कितनी अधिभार वृद्धि पेश की गई है?

Options :

1. ✖ 0.015

2. ✔ 0.03

3. ✖ 0.05

4. ✖ 0.07

Question Number : 46 Question Id : 54592724690 Question Type : MCQ Option Shuffling : Yes
Correct Marks : 1 Wrong Marks : 0.25

What does MDR in the context of digital transaction stand for?

Options :

1. ✖ Market Debit Rate

2. ✖ Merchant Debit Rate

3. ✖ Market Discount Rate

4. ✔ Merchant Discount Rate

Question Number : 46 Question Id : 54592724690 Question Type : MCQ Option Shuffling : Yes
Correct Marks : 1 Wrong Marks : 0.25

डिजिटल लेनदेन के संदर्भ में एमडीआर क्या है?

Options :

1. ✖ मार्केट डेबिट रेट

2. ✖ मर्चेन्ट डेबिट रेट

3. ✖ मार्केट डिस्काउंट रेट

4. ✔ मार्केट डिस्काउंट रेट

Question Number : 47 Question Id : 54592724691 Question Type : MCQ Option Shuffling : Yes

Correct Marks : 1 Wrong Marks : 0.25

According to the Economic Survey 2018-19, to achieve a 5 trillion US Dollar economy India needs to sustain a minimum real growth of _____ per annum.

Options :

1. ✖ 0.03

2. ✖ 0.07

3. ✔ 0.08

4. ✖ 0.1

Question Number : 47 Question Id : 54592724691 Question Type : MCQ Option Shuffling : Yes

Correct Marks : 1 Wrong Marks : 0.25

आर्थिक सर्वेक्षण 2018-19 के अनुसार, 5 ट्रिलियन अमेरिकी डॉलर की अर्थव्यवस्था को प्राप्त करने के लिए भारत को न्यूनतम _____ प्रतिवर्ष वास्तविक विकास को बनाए रखने की आवश्यकता है।

Options :

1. ✖ 0.03

2. ✖ 0.07

3. ✔ 0.08

4. ✖ 0.1

Question Number : 48 Question Id : 54592724692 Question Type : MCQ Option Shuffling : Yes

Correct Marks : 1 Wrong Marks : 0.25

How many average neutrons are released per fission of uranium nucleus?

Options :

1. ✖ 1

2. ✓ 2.5

3. ✗ 4.5

4. ✗ 3

Question Number : 48 Question Id : 54592724692 Question Type : MCQ Option Shuffling : Yes

Correct Marks : 1 Wrong Marks : 0.25

प्रति यूरेनियम विखंडन में औसतन कितने न्यूट्रॉनों की उत्पत्ति होती है?

Options :

1. ✗ 1

2. ✓ 2.5

3. ✗ 4.5

4. ✗ 3

Question Number : 49 Question Id : 54592724693 Question Type : MCQ Option Shuffling : Yes

Correct Marks : 1 Wrong Marks : 0.25

Which of the following substance medium will have the highest refractive index?

Options :

1. ✗ Water

2. ✗ Crown glass

3. ✗ Dense flint glass

4. ✓ Diamond

Question Number : 49 Question Id : 54592724693 Question Type : MCQ Option Shuffling : Yes

Correct Marks : 1 Wrong Marks : 0.25

निम्नलिखित पदार्थ माध्यमों में किसका अपवर्तनांक सर्वाधिक है?

Options :

1. ✗ जल

2. ✗ क्राउन कांच

3. ✗ सघन फ्लिंट कांच

4. ✓ हीरा

Question Number : 50 Question Id : 54592724694 Question Type : MCQ Option Shuffling : Yes
Correct Marks : 1 Wrong Marks : 0.25

If a thin strip of magnesium is brought near a candle then it will burn with a –

Options :

1. ✘ Blue light
2. ✘ Red light
3. ✓ White light
4. ✘ Yellow light

Question Number : 50 Question Id : 54592724694 Question Type : MCQ Option Shuffling : Yes
Correct Marks : 1 Wrong Marks : 0.25

यदि मैग्नीशियम की एक पतली पट्टी को मोमबत्ती की लौ के पास लाया जाए, तो वह एक _____ प्रकाश देकर जलने लगती है।

Options :

1. ✘ नीला
2. ✘ लाल
3. ✓ श्वेत
4. ✘ पीला

Question Number : 51 Question Id : 54592724695 Question Type : MCQ Option Shuffling : Yes
Correct Marks : 1 Wrong Marks : 0.25

Which of the following is not an endocrine gland in human-brains?

Options :

1. ✘ Pituitary gland
2. ✘ Pineal gland
3. ✘ Hypothalamus
4. ✓ Thymus

Question Number : 51 Question Id : 54592724695 Question Type : MCQ Option Shuffling : Yes

Correct Marks : 1 Wrong Marks : 0.25

निम्नलिखित में से कौनसी अंतःस्रावी ग्रंथि मनुष्यों के मस्तिष्क में नहीं है?

Options :

1. * पीयूष ग्रंथि
2. * पिनियल ग्रंथि
3. * हाईपोथैलमस
4. ✓ थाइमस ग्रंथि

Question Number : 52 Question Id : 54592724696 Question Type : MCQ Option Shuffling : Yes

Correct Marks : 1 Wrong Marks : 0.25

Which of the following fall under invertebrates?

Options :

1. ✓ Insects, Molluscs, Crustaceans
2. * Fungi, Algae, Lichens
3. * Fishes, Reptiles, Mosses
4. * Birds, Mammals, Angiosperms

Question Number : 52 Question Id : 54592724696 Question Type : MCQ Option Shuffling : Yes

Correct Marks : 1 Wrong Marks : 0.25

निम्नलिखित में से कौनसे विकल्प के सारे जातीय वर्ग समूह अकेशरुकी में आते हैं?

Options :

1. ✓ कीट, मोलस्क, क्रस्टेशिया
2. * कवक, शैवाल, लाइकेन
3. * मत्स्य, सरीसृप, माँसेस
4. * पक्षी, स्तनधारी, आवृतबीजीय

Question Number : 53 Question Id : 54592724697 Question Type : MCQ Option Shuffling : Yes

Correct Marks : 1 Wrong Marks : 0.25

Which of the following statements about sewage treatment is incorrect?

Options :

1. ✓ Anaerobic microbes consume the major part of the organic matter in the primary effluent to reduce the Biochemical Oxygen Demand (BOD)
2. * When the bacterial 'flocs' are allowed to settle in the effluent, it is called the activated sludge
3. * The primary sludge mostly consists of rocks, pebbles and other solid impurities
4. * Biogas is formed during the treatment

Question Number : 53 Question Id : 54592724697 Question Type : MCQ Option Shuffling : Yes

Correct Marks : 1 Wrong Marks : 0.25

वाहितमल उपचार सम्बन्धी कौनसा कथन गलत है?

Options :

1. ✓ अवायुवीय जीवाणु प्राथमिक बहिःस्राव में कार्बनिक पदार्थों की खपत कर देते हैं, जिससे बहिःस्राव का बायोकेमिकल ऑक्सीजन डिमांड या बी.ओ.डी. घट जाता है
2. * जब जीवाणु झुण्ड (फ्लॉक्स) अवसाद में परिवर्तित हो जाते हैं, उसे सक्रियीत आपक कहते हैं
3. * प्राथमिक आपक में मूलतः पत्थर, कंकड़ जैसे ठोस अशुद्धियाँ होती हैं
4. * उपचार के दौरान बायोगैस का निर्माण होता है

Question Number : 54 Question Id : 54592724698 Question Type : MCQ Option Shuffling : Yes

Correct Marks : 1 Wrong Marks : 0.25

Which of the following hormones inhibits growth in plants?

Options :

1. * Auxin
2. * Cytokinin
3. ✓ Abscisic acid
4. * Amino acid

Question Number : 54 Question Id : 54592724698 Question Type : MCQ Option Shuffling : Yes
Correct Marks : 1 Wrong Marks : 0.25

निम्नलिखित में से कौन सा हार्मोन पौधों में वृद्धि को रोकता है?

Options :

1. * ऑक्सिन
2. * साइटोकाईनिन
3. ✓ एब्सिसिक अम्ल
4. * एमिनो अम्ल

Question Number : 55 Question Id : 54592724699 Question Type : MCQ Option Shuffling : Yes
Correct Marks : 1 Wrong Marks : 0.25

Which of the following statements about tumors is incorrect?

Options :

1. * Benign tumors remain confined to their original location
2. * The cells of malignant tumors grow very rapidly
3. ✓ Benign tumors are actually a mass of neoplastic cells
4. * Metastasis is the most feared property of malignant tumors

Question Number : 55 Question Id : 54592724699 Question Type : MCQ Option Shuffling : Yes
Correct Marks : 1 Wrong Marks : 0.25

अर्बुद सम्बन्धी निम्नलिखित कथनों में से कौनसा गलत है?

Options :

1. * सुदाम अर्बुद अपने मूल स्थान तक सीमित रहते हैं
2. * दुर्दम अर्बुद की कोशिकाओं की वृद्धि बहुत तेज़ होती है

3. ✓ सुदाम अर्बुद नवद्रव्यीव (नियोप्लास्टिक) कोशिकाओं का पुंज है

4. * मैटास्टेसिस दुर्दम अर्बुदों का सबसे डरावना गुण है

Question Number : 56 Question Id : 54592724700 Question Type : MCQ Option Shuffling : Yes

Correct Marks : 1 Wrong Marks : 0.25

The River (i)___ is known as the 'Sorrow of Bihar', because it (ii)_____.

Options :

1. * (i) Kosi (ii) runs dry, causing famines

2. * (i) Damodar (ii) changes course, causing floods

3. ✓ (i) Kosi (ii) changes course, causing floods

4. * (i) Damodar (ii) runs dry, causing famines

Question Number : 56 Question Id : 54592724700 Question Type : MCQ Option Shuffling : Yes

Correct Marks : 1 Wrong Marks : 0.25

नदी (i) _____ को 'बिहार के शोक' के रूप में जाना जाता है, क्योंकि यह (ii) _____।

Options :

1. * (i) कोसी (ii) सूखी बहती है, जिससे अकाल पड़ता है

2. * (i) दामोदर (ii) मार्ग बदलती है, जिससे बाढ़ आती है

3. ✓ (i) कोसी (ii) मार्ग बदलती है, जिससे बाढ़ आती है

4. * (i) दामोदर (ii) सूखी बहती है, जिससे अकाल पड़ता है

Question Number : 57 Question Id : 54592724701 Question Type : MCQ Option Shuffling : Yes

Correct Marks : 1 Wrong Marks : 0.25

Which of the following is not situated in the Pacific Ocean?

Options :

1. * Mariana Trench

2. * Devil's Sea

3. ✓ Bermuda Triangle

4. * Philippine Trench

Question Number : 57 Question Id : 54592724701 Question Type : MCQ Option Shuffling : Yes
Correct Marks : 1 Wrong Marks : 0.25

निम्नलिखित में से कौन सा प्रशांत महासागर में स्थित नहीं है?

Options :

1. * मारियाना खाई
2. * डेविल्स सागर
3. ✓ बरमूडा त्रिकोण
4. * फिलीपीन खाई

Question Number : 58 Question Id : 54592724702 Question Type : MCQ Option Shuffling : Yes
Correct Marks : 1 Wrong Marks : 0.25

Which of the following soils swell and become sticky when wet and shrink when dried?

Options :

1. * Alluvial Soil
2. ✓ Black Soil
3. * Red Soil
4. * Laterite Soil

Question Number : 58 Question Id : 54592724702 Question Type : MCQ Option Shuffling : Yes
Correct Marks : 1 Wrong Marks : 0.25

निम्नलिखित में से कौन सी मिट्टी गीली होने पर चिपचिपी और फूल जाती है और सूखने पर सिकुड़ जाती है?

Options :

1. * जलोढ़ मिट्टी
2. ✓ काली मिट्टी
3. * लाल मिट्टी
4. * लेटराइट (लाल मिट्टी) मिट्टी

Question Number : 59 Question Id : 54592724703 Question Type : MCQ Option Shuffling : Yes

Correct Marks : 1 Wrong Marks : 0.25

Which of the following statements about the different types of millets is incorrect?

Options :

1. ✓ Bajra is the third most important food crop in India with respect to area and production
2. * Jowar is a rain-fed crop mostly grown in the moist areas which hardly needs irrigation
3. * Bajra grows well on sandy soils and shallow black soil
4. * Ragi is a crop of dry regions and grows well on red, black, sandy, loamy and shallow black soils

Question Number : 59 Question Id : 54592724703 Question Type : MCQ Option Shuffling : Yes

Correct Marks : 1 Wrong Marks : 0.25

विभिन्न प्रकार के बाजरे के बारे में निम्नलिखित में से कौन सा कथन गलत है?

Options :

1. ✓ क्षेत्र और उत्पादन के संबंध में बाजरा भारत की तीसरी सबसे महत्वपूर्ण खाद्य फसल है
2. * ज्वार वर्षा आधारित फसल है जो अधिकतर नम क्षेत्रों में उगाई जाती है जिसे सिंचाई की शायद ही आवश्यकता होती है
3. * बाजरा रेतीली मिट्टी और उथली काली मिट्टी पर अच्छी तरह से उगता है
4. * रागी शुष्क क्षेत्रों की फसल है और लाल, काली, रेतीली, दोमट और उथली काली मिट्टी पर अच्छी तरह से उगता है

Question Number : 60 Question Id : 54592724704 Question Type : MCQ Option Shuffling : Yes

Correct Marks : 1 Wrong Marks : 0.25

Which of the following groups of states show a low rate of population growth not exceeding 20 per cent over the decade?

Options :

1. ✓ Karnataka, Tamil Nadu, Kerala
2. ✘ Karnataka, Kerala, Bihar
3. ✘ Odisha, West Bengal, Uttar Pradesh
4. ✘ West Bengal, Uttar Pradesh, Bihar

Question Number : 60 Question Id : 54592724704 Question Type : MCQ Option Shuffling : Yes

Correct Marks : 1 Wrong Marks : 0.25

निम्न में से किस राज्य के समूह में जनसँख्या वृद्धि दर कम है जो कि दशक में 20 प्रतिशत से अधिक नहीं है?

Options :

1. ✓ कर्नाटक, तमिलनाडु, केरल
2. ✘ कर्नाटक, केरल, बिहार
3. ✘ ओडिशा, पश्चिम बंगाल, उत्तर प्रदेश
4. ✘ पश्चिम बंगाल, उत्तर प्रदेश, बिहार

General Awareness2

Group Number :	4
Group Id :	5459271224
Group Maximum Duration :	0
Group Minimum Duration :	0
Show Attended Group? :	No
Edit Attended Group? :	No
Break time:	0
Group Marks:	20
Is this Group for Examiner?:	No
Revisit allowed for group Instructions? :	Yes
Maximum Instruction Time:	0
Minimum Instruction Time:	0

General Awareness2

Section Id :	5459271224
Section Number :	1
Section type :	Online
Mandatory or Optional:	Mandatory
Number of Questions:	20
Number of Questions to be attempted:	20
Section Marks:	20

Sub-Section Number:	1
Sub-Section Id:	5459271468
Question Shuffling Allowed :	Yes

Question Number : 61 Question Id : 54592724705 Question Type : MCQ Option Shuffling : Yes

Correct Marks : 1 Wrong Marks : 0.25

Which of the following neighbours of India has Taka as its currency?

Options :

1. * China
2. * Myanmar
3. * Sri Lanka
4. ✓ Bangladesh

Question Number : 61 Question Id : 54592724705 Question Type : MCQ Option Shuffling : Yes

Correct Marks : 1 Wrong Marks : 0.25

भारत के निम्नलिखित पड़ोसियों में से किसकी मुद्रा “टका” है?

Options :

1. * चीन
2. * म्यांमार
3. * श्रीलंका
4. ✓ बांग्लादेश

Question Number : 62 Question Id : 54592724706 Question Type : MCQ Option Shuffling : Yes

Correct Marks : 1 Wrong Marks : 0.25

In which of the following sites was the Great Bath found?

Options :

1. * Chanhu Daro

2. * Lothal

3. * Harappa

4. ✓ Mohenjo Daro

Question Number : 62 Question Id : 54592724706 Question Type : MCQ Option Shuffling : Yes

Correct Marks : 1 Wrong Marks : 0.25

निम्नलिखित में से किस स्थान पर “विशाल स्नानागार” मिला था?

Options :

1. * चन्हु दारो

2. * लोथल

3. * हड़प्पा

4. ✓ मोहनजोदड़ो

Question Number : 63 Question Id : 54592724707 Question Type : MCQ Option Shuffling : Yes

Correct Marks : 1 Wrong Marks : 0.25

The only empress of the Delhi Sultanate ruled during the period of:

Options :

1. * 1206-1210 AD

2. * 1210-1236 AD

3. ✓ 1236-1240 AD

4. * 1266-1287 AD

Question Number : 63 Question Id : 54592724707 Question Type : MCQ Option Shuffling : Yes

Correct Marks : 1 Wrong Marks : 0.25

दिल्ली सल्तनत की एकमात्र साम्राज्ञी ने किस काल में शासन किया?

Options :

1. * 1206-1210 ई

2. * 1210-1236 ई

3. ✓ 1236-1240 ई

4. ✖ 1266-1287 ई

Question Number : 64 Question Id : 54592724708 Question Type : MCQ Option Shuffling : Yes
Correct Marks : 1 Wrong Marks : 0.25

In which of the following Battles was Humayun defeated by Sher Shah Suri?

Options :

1. ✖ Battle of Khanwa and 1st Battle of Panipat
2. ✖ Battle of Khanwa and Battle of Chausa
3. ✖ Battle of Chausa and Battle of Chanderi
4. ✔ Battle of Chausa and Battle of Kanauj

Question Number : 64 Question Id : 54592724708 Question Type : MCQ Option Shuffling : Yes
Correct Marks : 1 Wrong Marks : 0.25

शेरशाह सूरी ने हुमायूँ को किस युद्ध में हराया था?

Options :

1. ✖ खानवा का युद्ध और पानीपत का पहला युद्ध
2. ✖ खानवा का युद्ध और चौसा का युद्ध
3. ✖ चौसा का युद्ध और चंदेरी का युद्ध
4. ✔ चौसा का युद्ध और कन्नौज का युद्ध

Question Number : 65 Question Id : 54592724709 Question Type : MCQ Option Shuffling : Yes
Correct Marks : 1 Wrong Marks : 0.25

In which year was the British East India Company appointed as the Diwan of Bengal?

Options :

1. ✖ 1762
2. ✖ 1763
3. ✖ 1764
4. ✔ 1765

Question Number : 65 Question Id : 54592724709 Question Type : MCQ Option Shuffling : Yes

Correct Marks : 1 Wrong Marks : 0.25

ब्रिटिश ईस्ट इंडिया कंपनी को बंगाल के दीवान के रूप में किस वर्ष नियुक्त किया गया था?

Options :

1. ✖ 1762
2. ✖ 1763
3. ✖ 1764
4. ✔ 1765

Question Number : 66 Question Id : 54592724710 Question Type : MCQ Option Shuffling : Yes

Correct Marks : 1 Wrong Marks : 0.25

Who out of the following Freedom Fighters of India had said in his speech that the goal of national education was to awaken the spirit of nationality among the students?

Options :

1. ✔ Aurobindo Ghosh
2. ✖ Motilal Nehru
3. ✖ Ishwar Chandra Vidyasagar
4. ✖ Bankim Chandra Chattopadhyay

Question Number : 66 Question Id : 54592724710 Question Type : MCQ Option Shuffling : Yes

Correct Marks : 1 Wrong Marks : 0.25

भारत के निम्नलिखित स्वतंत्रता सेनानियों में से किसने अपने भाषण में कहा था कि राष्ट्रीय शिक्षा का लक्ष्य छात्रों में राष्ट्रीयता की भावना को जागृत करना था?

Options :

1. ✔ अरबिंदो घोष
2. ✖ मोतीलाल नेहरू
3. ✖ ईश्वर चंद्र विद्यासागर

4. * बंकिम चंद्र चट्टोपाध्याय

Question Number : 67 Question Id : 54592724711 Question Type : MCQ Option Shuffling : Yes
Correct Marks : 1 Wrong Marks : 0.25

After the Partition of Bengal the Congress split in the year (i)___, to be re-united again in the year (ii)___.

Note: For this question, discrepancy is found in question/answer. So, this question is ignored for all candidates.

Options :

1. (i) 1905 (ii) 1916
2. (i) 1906 (ii) 1915
3. (i) 1907 (ii) 1914
4. (i) 1908 (ii) 1913

Question Number : 67 Question Id : 54592724711 Question Type : MCQ Option Shuffling : Yes
Correct Marks : 1 Wrong Marks : 0.25

बंगाल के विभाजन के बाद कांग्रेस वर्ष (i) ___ में विभाजित हुई, वर्ष (ii) ___ में फिर से एकजुट हुई।

Note: For this question, discrepancy is found in question/answer. So, this question is ignored for all candidates.

Options :

1. (i) 1905 (ii) 1916
2. (i) 1906 (ii) 1915
3. (i) 1907 (ii) 1914
4. (i) 1908 (ii) 1913

Question Number : 68 Question Id : 54592724712 Question Type : MCQ Option Shuffling : Yes
Correct Marks : 1 Wrong Marks : 0.25

Who out of the following has been appointed as the new Chief Executive of the European Commission?

Options :

1. ✓ Ursula von der Leyen
2. * Andrea Nahles

3. * Olaf Schlos

4. * Sigmar Gabriel

Question Number : 68 Question Id : 54592724712 Question Type : MCQ Option Shuffling : Yes

Correct Marks : 1 Wrong Marks : 0.25

निम्नलिखित में से किसे यूरोपीय आयोग का नया मुख्य कार्यकारी नियुक्त किया गया है?

Options :

1. ✓ उर्सुला वॉन डेर लेयेन

2. * एंड्रिया नाहल्स

3. * ओलाफ स्कोल

4. * सिगमर गेब्रियल

Question Number : 69 Question Id : 54592724713 Question Type : MCQ Option Shuffling : Yes

Correct Marks : 1 Wrong Marks : 0.25

Who became the first woman Chief Economist of the International Monetary Fund (IMF)?

Options :

1. * Emi Nakamura

2. * Christine Lagarde

3. ✓ Gita Gopinath

4. * Tulsi Gabbard

Question Number : 69 Question Id : 54592724713 Question Type : MCQ Option Shuffling : Yes

Correct Marks : 1 Wrong Marks : 0.25

अंतरराष्ट्रीय मुद्रा कोष (आईएमएफ) की पहली महिला मुख्य अर्थशास्त्री कौन बनी?

Options :

1. * ईमी नाकामुरा

2. * क्रिस्टीन लेगार्ड

3. ✓ गीता गोपीनाथ

4. ✘ तुलसी गबाई

Question Number : 70 Question Id : 54592724714 Question Type : MCQ Option Shuffling : Yes

Correct Marks : 1 Wrong Marks : 0.25

Who out of the following was awarded the Ashok Chakra for the year 2019?

Options :

1. ✘ Major Tushar Gauba

2. ✘ Lt. Col Vikrant Prasher

3. ✘ Captain Abhay Sharma

4. ✓ Lance Naik Nazir Ahmad Wani

Question Number : 70 Question Id : 54592724714 Question Type : MCQ Option Shuffling : Yes

Correct Marks : 1 Wrong Marks : 0.25

निम्नलिखित में से किसे वर्ष 2019 में अशोक चक्र से सम्मानित किया गया था?

Options :

1. ✘ मेजर तुषार गौबा

2. ✘ लेफ्टिनेंट कर्नल विक्रान्त प्राशेर

3. ✘ कैप्टन अभय शर्मा

4. ✓ लांस नायक नजीर अहमद वानी

Question Number : 71 Question Id : 54592724715 Question Type : MCQ Option Shuffling : Yes

Correct Marks : 1 Wrong Marks : 0.25

Which out of the following is not a novel written by Jules Verne?

Options :

1. ✘ Journey to the Center of the Earth

2. ✓ The Invisible Man

3. ✘ Twenty Thousand Leagues Under the Sea

4. * Around the World in Eighty Days

Question Number : 71 Question Id : 54592724715 Question Type : MCQ Option Shuffling : Yes
Correct Marks : 1 Wrong Marks : 0.25

निम्नलिखित में से कौनसा जूल्स वर्न द्वारा लिखा गया उपन्यास नहीं है?

Options :

1. * जर्नी टू सेंटर ऑफ़ द अर्थ
2. ✓ द इनविजिबल मैन
3. * ट्वेंटी थाउज़ेंड लीग्ज अंडर द सी
4. * अराउंड द वर्ल्ड इन एटी डेज़

Question Number : 72 Question Id : 54592724716 Question Type : MCQ Option Shuffling : Yes
Correct Marks : 1 Wrong Marks : 0.25

In which year was the NITI Aayog formed?

Options :

1. * 2012
2. * 2013
3. * 2014
4. ✓ 2015

Question Number : 72 Question Id : 54592724716 Question Type : MCQ Option Shuffling : Yes
Correct Marks : 1 Wrong Marks : 0.25

नीति आयोग का गठन किस वर्ष में किया गया था?

Options :

1. * 2012
2. * 2013
3. * 2014
4. ✓ 2015

Question Number : 73 Question Id : 54592724717 Question Type : MCQ Option Shuffling : Yes

Correct Marks : 1 Wrong Marks : 0.25

Robert Hooke is known for the discovery of _____.

Options :

1. ✖ Blood Groups
2. ✔ Cells
3. ✖ Spinal Cord
4. ✖ Antibodies

Question Number : 73 Question Id : 54592724717 Question Type : MCQ Option Shuffling : Yes

Correct Marks : 1 Wrong Marks : 0.25

रोबर्ट हुक किसकी खोज के लिए जाने जाते हैं?

Options :

1. ✖ रक्त समूह
2. ✔ कोशिकाएं
3. ✖ मेरुदण्ड
4. ✖ प्रतिपिंड (एंटीबॉडीज)

Question Number : 74 Question Id : 54592724718 Question Type : MCQ Option Shuffling : Yes

Correct Marks : 1 Wrong Marks : 0.25

Which of the following statements about the Zero Hour of the Parliament is incorrect?

Options :

1. ✖ It is not mentioned in the Rules of Procedure
2. ✖ A question can be raised in the Parliament without a prior notice
3. ✔ It starts before the Question Hour session of the Parliament
4. ✖ It is an Indian innovation

Question Number : 74 Question Id : 54592724718 Question Type : MCQ Option Shuffling : Yes

Correct Marks : 1 Wrong Marks : 0.25

संसद के शून्यकाल के बारे में निम्नलिखित में से कौन सा कथन गलत है?

Options :

1. * यह कार्य-संचालन विषयक नियमों में उल्लेखित नहीं है
2. * पूर्व सूचना के बिना संसद में प्रश्न उठाया जा सकता है
3. ✓ यह संसद के प्रश्नकाल सत्र से पहले शुरू होता है
4. * यह एक भारतीय नवाचार है

Question Number : 75 Question Id : 54592724719 Question Type : MCQ Option Shuffling : Yes

Correct Marks : 1 Wrong Marks : 0.25

Which of the following cases laid down the doctrine of 'basic structure' of the Indian Constitution?

Options :

1. ✓ Keshavananda Bharati Case
2. * Golak Nath Case
3. * A. K. Gopalan Case
4. * Shankari Prasad Case

Question Number : 75 Question Id : 54592724719 Question Type : MCQ Option Shuffling : Yes

Correct Marks : 1 Wrong Marks : 0.25

निम्नलिखित में से किस मुकदमे ने भारतीय संविधान के 'बुनियादी ढांचे' के सिद्धांत को आधार बनाया?

Options :

1. ✓ केशवानंद भारती प्रकरण
2. * गोलक नाथ प्रकरण
3. * ए. के. गोपालन प्रकरण
4. * शंकरी प्रसाद प्रकरण

Question Number : 76 Question Id : 54592724720 Question Type : MCQ Option Shuffling : Yes

Correct Marks : 1 Wrong Marks : 0.25

Which of the following languages were not added to the Eighth Schedule of the Indian Constitution through the 71st Constitutional Amendment Act?

Options :

1. * Konkani
2. ✓ Sindhi
3. * Manipuri
4. * Nepali

Question Number : 76 Question Id : 54592724720 Question Type : MCQ Option Shuffling : Yes

Correct Marks : 1 Wrong Marks : 0.25

निम्नलिखित में से कौन सी भाषा 71वें संविधान संशोधन अधिनियम के माध्यम से भारतीय संविधान की आठवीं अनुसूची में जोड़ी नहीं गई?

Options :

1. * कोंकणी
2. ✓ सिंधी
3. * मणिपुरी
4. * नेपाली

Question Number : 77 Question Id : 54592724721 Question Type : MCQ Option Shuffling : Yes

Correct Marks : 1 Wrong Marks : 0.25

The (i)___ had given the recognition of the Portfolio system which was introduced by (ii)___.

Options :

1. * (i) Indian Councils Act of 1892 (ii) Lord Dufferin
2. * (i) Indian Councils Act of 1909 (ii) Lord Canning
3. ✓ (i) Indian Councils Act of 1861 (ii) Lord Canning
4. * (i) Indian Councils Act of 1861 (ii) Lord Dufferin

Question Number : 77 Question Id : 54592724721 Question Type : MCQ Option Shuffling : Yes

Correct Marks : 1 Wrong Marks : 0.25

(i) _____ ने पोर्टफोलियो प्रणाली की मान्यता दी थी जिसे (ii) _____ द्वारा पेश किया गया था।

Options :

1. * (i) भारतीय काउंसिल अधिनियम 1892 (ii) लॉर्ड डफरिन
2. * (i) भारतीय परिषद अधिनियम 1909 (ii) लॉर्ड कैनिंग
3. ✓ (i) 1861 का भारतीय परिषद अधिनियम (ii) लॉर्ड कैनिंग
4. * (i) भारतीय परिषद अधिनियम 1861 (ii) लॉर्ड डफरिन

Question Number : 78 Question Id : 54592724722 Question Type : MCQ Option Shuffling : Yes

Correct Marks : 1 Wrong Marks : 0.25

Virat Kohli has recently completed 20,000 international runs in _____ innings.

Note: For this question, discrepancy is found in question/answer. So, this question is ignored for all candidates.

Options :

1. 401
2. 416
3. 435
4. 453

Question Number : 78 Question Id : 54592724722 Question Type : MCQ Option Shuffling : Yes

Correct Marks : 1 Wrong Marks : 0.25

विराट कोहली ने हाल ही में _____ पारी में 20,000 अंतर्राष्ट्रीय रन पूरे किए हैं।

Note: For this question, discrepancy is found in question/answer. So, this question is ignored for all candidates.

Options :

1. 401
2. 416
3. 435

4. 453

Question Number : 79 Question Id : 54592724723 Question Type : MCQ Option Shuffling : Yes
Correct Marks : 1 Wrong Marks : 0.25

Which of the following teams does Lionel Messi play for?

Options :

1. ✖ Brazil
2. ✖ Spain
3. ✔ Argentina
4. ✖ England

Question Number : 79 Question Id : 54592724723 Question Type : MCQ Option Shuffling : Yes
Correct Marks : 1 Wrong Marks : 0.25

लियोनेल मेस्सी निम्नलिखित में से किस टीम के लिए खेलते हैं?

Options :

1. ✖ ब्राजील
2. ✖ स्पेन
3. ✔ अर्जेंटीना
4. ✖ इंग्लैंड

Question Number : 80 Question Id : 54592724724 Question Type : MCQ Option Shuffling : Yes
Correct Marks : 1 Wrong Marks : 0.25

In which of the following countries will the Cricket World Cup 2023 be held?

Options :

1. ✖ Australia
2. ✖ South Africa
3. ✖ West Indies
4. ✔ India

Question Number : 80 Question Id : 54592724724 Question Type : MCQ Option Shuffling : Yes
Correct Marks : 1 Wrong Marks : 0.25

क्रिकेट विश्व कप 2023 निम्नलिखित में से किस देश में आयोजित किया जाएगा?

Options :

1. ✖ ऑस्ट्रेलिया
2. ✖ दक्षिण अफ्रीका
3. ✖ वेस्ट इंडीज
4. ✔ भारत

Arithmetic Ability1

Group Number :	5
Group Id :	5459271225
Group Maximum Duration :	0
Group Minimum Duration :	0
Show Attended Group? :	No
Edit Attended Group? :	No
Break time:	0
Group Marks:	20
Is this Group for Examiner?:	No
Revisit allowed for group Instructions? :	Yes
Maximum Instruction Time:	0
Minimum Instruction Time:	0

Arithmetic Ability1

Section Id :	5459271225
Section Number :	1
Section type :	Online
Mandatory or Optional:	Mandatory
Number of Questions:	20
Number of Questions to be attempted:	20
Section Marks:	20

Sub-Section Number:	1
Sub-Section Id:	5459271469
Question Shuffling Allowed :	Yes

Question Number : 81 Question Id : 54592724725 Question Type : MCQ Option Shuffling : Yes
Correct Marks : 1 Wrong Marks : 0.25

What should come in place of the question mark (?) in the following question?

$$(4700 + 3200 + 2100) \div (200 \div 5 \times 5 - 195) = ?$$

Options :

1. ✖ 3000

2. ✖ 2500

3. ✔ 2000

4. ✖ 2100

Question Number : 81 Question Id : 54592724725 Question Type : MCQ Option Shuffling : Yes

Correct Marks : 1 Wrong Marks : 0.25

निम्नलिखित प्रश्न में प्रश्नवाचक चिन्ह (?) के स्थान पर क्या आना चाहिए?

$$(4700 + 3200 + 2100) \div (200 \div 5 \times 5 - 195) = ?$$

Options :

1. ✖ 3000

2. ✖ 2500

3. ✔ 2000

4. ✖ 2100

Question Number : 82 Question Id : 54592724726 Question Type : MCQ Option Shuffling : Yes

Correct Marks : 1 Wrong Marks : 0.25

What should come in place of the question mark (?) in the following question?

$$56 \times 445 + 77 \times 555 + 21 \times 445 = ?$$

Options :

1. ✖ 75000

2. ✖ 76000

3. ✖ 78000

4. ✔ 77000

Question Number : 82 Question Id : 54592724726 Question Type : MCQ Option Shuffling : Yes
Correct Marks : 1 Wrong Marks : 0.25

निम्नलिखित प्रश्न में प्रश्नवाचकचिन्ह (?) के स्थान पर क्या आना चाहिए?

$$56 \times 445 + 77 \times 555 + 21 \times 445 = ?$$

Options :

1. ✖ 75000

2. ✖ 76000

3. ✖ 78000

4. ✔ 77000

Question Number : 83 Question Id : 54592724727 Question Type : MCQ Option Shuffling : Yes
Correct Marks : 1 Wrong Marks : 0.25

What should come in place of the question mark (?) in the following question?

$$1\frac{1}{4} + 1\frac{5}{9} \times 1\frac{5}{8} \div 6\frac{1}{2} = ?$$

Options :

1. ✖ 17

2. ✖ 27

3. ✖ 42

4. ✔ $1\frac{23}{36}$

Question Number : 83 Question Id : 54592724727 Question Type : MCQ Option Shuffling : Yes
Correct Marks : 1 Wrong Marks : 0.25

निम्नलिखित प्रश्न में प्रश्नवाचक चिन्ह (?) के स्थान पर क्या आना चाहिए?

$$1\frac{1}{4} + 1\frac{5}{9} \times 1\frac{5}{8} \div 6\frac{1}{2} = ?$$

Options :

1. ✖ 17

2. ✖ 27

3. ✖ 42

4. ✔ $1\frac{23}{36}$

Question Number : 84 Question Id : 54592724728 Question Type : MCQ Option Shuffling : Yes
Correct Marks : 1 Wrong Marks : 0.25

What should come in place of the question mark (?) in the following question?

$$6\frac{1}{6} + 4\frac{5}{6} - 3\frac{3}{4} - 6\frac{1}{4} = ?$$

Options :

1. ✖ 2

2. ✖ 3

3. ✖ 4

4. ✔ 1

Question Number : 84 Question Id : 54592724728 Question Type : MCQ Option Shuffling : Yes
Correct Marks : 1 Wrong Marks : 0.25

निम्नलिखित प्रश्न में प्रश्नवाचक चिन्ह (?) के स्थान पर क्या आना चाहिए?

$$6\frac{1}{6} + 4\frac{5}{6} - 3\frac{3}{4} - 6\frac{1}{4} = ?$$

Options :

1. ✖ 2

2. ✖ 3

3. ✖ 4

4. ✔ 1

Question Number : 85 Question Id : 54592724729 Question Type : MCQ Option Shuffling : Yes

Correct Marks : 1 Wrong Marks : 0.25

What should come in place of the question mark (?) in the following questions?

$$[(11)3 \times (?)2] \div 33 = 1452$$

Note: For this question, discrepancy is found in question/answer. So, this question is ignored for all candidates.

Options :

1. 4

2. 6

3. 36

4. 16

Question Number : 85 Question Id : 54592724729 Question Type : MCQ Option Shuffling : Yes

Correct Marks : 1 Wrong Marks : 0.25

निम्नलिखित प्रश्न में प्रश्नवाचक चिन्ह (?) के स्थान पर क्या आयेगा?

$$[(11)3 \times (?)2] \div 33 = 1452$$

Note: For this question, discrepancy is found in question/answer. So, this question is ignored for all candidates.

Options :

1. 4
2. 6
3. 36
4. 16

Question Number : 86 Question Id : 54592724730 Question Type : MCQ Option Shuffling : Yes

Correct Marks : 1 Wrong Marks : 0.25

What should come in place of the question mark (?) in the following questions?

$$(63 \times 62) \times (64 \div 62) = 6?$$

Note: For this question, discrepancy is found in question/answer. So, this question is ignored for all candidates.

Options :

1. 7
2. 5
3. 6
4. 4

Question Number : 86 Question Id : 54592724730 Question Type : MCQ Option Shuffling : Yes

Correct Marks : 1 Wrong Marks : 0.25

निम्नलिखित प्रश्न में प्रश्नवाचक चिन्ह (?) के स्थान पर क्या आयेगा?

$$(63 \times 62) \times (64 \div 62) = 6?$$

Note: For this question, discrepancy is found in question/answer. So, this question is ignored for all candidates.

Options :

1. 7
2. 5

3. 6

4. 4

Question Number : 87 Question Id : 54592724731 Question Type : MCQ Option Shuffling : Yes

Correct Marks : 1 Wrong Marks : 0.25

Find the H.C.F. of $\frac{6}{10}$, $\frac{9}{25}$, $\frac{18}{35}$ and $\frac{21}{40}$

Options :

1. ✘ $\frac{3}{5}$

2. ✘ $\frac{252}{5}$

3. ✔ $\frac{3}{1400}$

4. ✘ $\frac{63}{700}$

Question Number : 87 Question Id : 54592724731 Question Type : MCQ Option Shuffling : Yes

Correct Marks : 1 Wrong Marks : 0.25

$\frac{6}{10}$, $\frac{9}{25}$, $\frac{18}{35}$ और $\frac{21}{40}$ का महत्तम समापवर्तक ज्ञात कीजिये

Options :

1. ✘ $\frac{3}{5}$

2. ✘ $\frac{252}{5}$

3. ✔ $\frac{3}{1400}$

4. ✘ $\frac{63}{700}$

Question Number : 88 Question Id : 54592724732 Question Type : MCQ Option Shuffling : Yes
Correct Marks : 1 Wrong Marks : 0.25

Find the L.C.M. of $\frac{1}{3}, \frac{2}{5}, \frac{4}{7}, \frac{4}{27}$

Options :

1. ✘ $\frac{1}{54}$

2. ✘ $\frac{10}{27}$

3. ✘ $\frac{20}{3}$

4. ✔ 4

Question Number : 88 Question Id : 54592724732 Question Type : MCQ Option Shuffling : Yes
Correct Marks : 1 Wrong Marks : 0.25

$\frac{1}{3}, \frac{2}{5}, \frac{4}{7}, \frac{4}{27}$ का लघुत्तम समापवर्त्य ज्ञात कीजिये

Options :

1. ✘ $\frac{1}{54}$

2. ✘ $\frac{10}{27}$

3. ✘ $\frac{20}{3}$

4. ✔ 4

Question Number : 89 Question Id : 54592724733 Question Type : MCQ Option Shuffling : Yes
Correct Marks : 1 Wrong Marks : 0.25

Which of the following will completely divide the product of 6 consecutive natural numbers from 78 to 83?

Options :

1. ✖ 600

2. ✖ 2160

3. ✖ 480

4. ✔ 720

Question Number : 89 Question Id : 54592724733 Question Type : MCQ Option Shuffling : Yes

Correct Marks : 1 Wrong Marks : 0.25

निम्नलिखित में से कौन सा विकल्प 78 से लेकर 83 तक सभी प्राकृतिक संख्याओं के गुणनफल को पूरी तरह से विभाजित करेगा?

Options :

1. ✖ 600

2. ✖ 2160

3. ✖ 480

4. ✔ 720

Question Number : 90 Question Id : 54592724734 Question Type : MCQ Option Shuffling : Yes

Correct Marks : 1 Wrong Marks : 0.25

Which of the following numbers is divisible by 36?

Options :

1. ✖ 2568

2. ✔ 2736

3. ✖ 3854

4. ✖ 3214

Question Number : 90 Question Id : 54592724734 Question Type : MCQ Option Shuffling : Yes

Correct Marks : 1 Wrong Marks : 0.25

निम्नलिखित में से कौन सी संख्या 36 से पूरी तरह विभाजित है?

Options :

1. ✖ 2568

2. ✔ 2736

3. ✖ 3854

4. ✖ 3214

Question Number : 91 Question Id : 54592724735 Question Type : MCQ Option Shuffling : Yes

Correct Marks : 1 Wrong Marks : 0.25

At a shop, the chocolate is available at 15% discount and biscuit is available at 25% discount. The marked price of chocolate is 60% of the marked price of the biscuit. By what percent is the selling price of chocolate less than the selling price of biscuit?

Options :

1. ✔ 0.32

2. ✖ 0.34

3. ✖ 0.29

4. ✖ 0.25

Question Number : 91 Question Id : 54592724735 Question Type : MCQ Option Shuffling : Yes

Correct Marks : 1 Wrong Marks : 0.25

एक दुकान पर, चॉकलेट 15% छूट पर और बिस्किट 25% छूट पर उपलब्ध है। चॉकलेट की चिह्नित कीमत बिस्किट के चिह्नित मूल्य का 60% है। बिस्किट के विक्रय मूल्य से चॉकलेट का विक्रय मूल्य कितने प्रतिशत कम है?

Options :

1. ✔ 0.32

2. ✖ 0.34

3. ✖ 0.29

4. ✖ 0.25

Question Number : 92 Question Id : 54592724736 Question Type : MCQ Option Shuffling : Yes
Correct Marks : 1 Wrong Marks : 0.25

The average marks of the students of a class decreased by two marks, if the marks of a student excluded whose score is 52 marks. Instead, if a new student included who did not give the exam, the average marks would have decreased by six marks. Find the initial average marks of all the students of the class.

Options :

- 1. ✖ 46
- 2. ✖ 44
- 3. ✖ 43
- 4. ✔ 42

Question Number : 92 Question Id : 54592724736 Question Type : MCQ Option Shuffling : Yes
Correct Marks : 1 Wrong Marks : 0.25

किसी कक्षा के छात्रों का औसत अंक दो अंकों से कम हो जाता है, यदि किसी छात्र के अंक को हटा दिया जाता है जिसका स्कोर 52 अंक है। इसके बजाय, यदि कोई नया छात्र शामिल होता है जिसने परीक्षा नहीं दी है, तो औसत अंक छह अंकों से कम हो जाते हैं। कक्षा के सभी छात्रों के प्रारंभिक औसत अंक ज्ञात कीजिए।

Options :

- 1. ✖ 46
- 2. ✖ 44
- 3. ✖ 43
- 4. ✔ 42

Question Number : 93 Question Id : 54592724737 Question Type : MCQ Option Shuffling : Yes

Correct Marks : 1 Wrong Marks : 0.25

The average cost of 9 kg sugar, 8 kg rice and 1 kg tea is Rs.41. The average cost of 9 kg sugar is Rs.37. The average cost of 8 kg rice is 35. Find the cost of 5 kg tea.

Options :

1. ✖ Rs.450
2. ✖ Rs.540
3. ✔ Rs.625
4. ✖ Rs.900

Question Number : 93 Question Id : 54592724737 Question Type : MCQ Option Shuffling : Yes

Correct Marks : 1 Wrong Marks : 0.25

9 किलो चीनी, 8 किलो चावल और 1 किलो चाय का औसत मूल्य रु. 41 है। 9 किलो चीनी का औसत मूल्य रु.37 है। 8 किलो चावल का औसत मूल्य रु.35 है। 5 किलो चाय का मूल्य का पता लगाएं।

Options :

1. ✖ रु.450
2. ✖ रु.540
3. ✔ रु.625
4. ✖ रु.900

Question Number : 94 Question Id : 54592724738 Question Type : MCQ Option Shuffling : Yes

Correct Marks : 1 Wrong Marks : 0.25

In a company XYZ Ltd, 160 employees in development department and 40 employees in marketing department were working. 40% of employees in development department and 25% employees in marketing department got fired. What percentage of employees is working in development department now (approximately)?

Options :

1. ✓ 0.762

2. ✗ 0.586

3. ✗ 0.823

4. ✗ 0.644

Question Number : 94 Question Id : 54592724738 Question Type : MCQ Option Shuffling : Yes
Correct Marks : 1 Wrong Marks : 0.25

एक कंपनी XYZ Ltd में, विकास विभाग में 160 कर्मचारी और विपणन विभाग में 40 कर्मचारी काम कर रहे थे। विकास विभाग के 40% और विपणन विभाग के 25% कर्मचारियों को निकाल दिया गया। अब (लगभग) विकास विभाग में कितने प्रतिशत कर्मचारी काम कर रहे हैं?

Options :

1. ✓ 0.762

2. ✗ 0.586

3. ✗ 0.823

4. ✗ 0.644

Question Number : 95 Question Id : 54592724739 Question Type : MCQ Option Shuffling : Yes
Correct Marks : 1 Wrong Marks : 0.25

The percentages of defective products produced by a company were 10%, and 9% during the year 2015 and 2016 respectively. The total number of defective products produced during these two years together was 5200. Company produced 20% more product in 2016 than that of 2015. Find number of products produced in 2016.

Options :

1. ✗ 22000

2. ✗ 24000

3. ✓ 30000

4. ✗ 36000

Question Number : 95 Question Id : 54592724739 Question Type : MCQ Option Shuffling : Yes

Correct Marks : 1 Wrong Marks : 0.25

किसी कंपनी द्वारा उत्पादित दोषपूर्ण उत्पादों का प्रतिशत 2015 और 2016 के दौरान क्रमशः 10% और 9% था। इन दो वर्षों के दौरान एक साथ उत्पादित दोषपूर्ण उत्पादों की कुल संख्या 5200 थी। कंपनी ने 2015 की तुलना में 2016 में 20% अधिक उत्पाद का उत्पादन किया। 2016 में उत्पादित उत्पादों की संख्या ज्ञात करें।

Options :

1. ✗ 22000

2. ✗ 24000

3. ✓ 30000

4. ✗ 36000

Question Number : 96 Question Id : 54592724740 Question Type : MCQ Option Shuffling : Yes

Correct Marks : 1 Wrong Marks : 0.25

Three numbers p , q and r such that, 50% of p is equal to 30% of q and 125% of q is equal to 45% of r . If 60% of r is 900, then find the sum of p , q and r .

Options :

1. ✓ 2364

2. ✗ 2145

3. ✗ 2275

4. ✗ 2486

Question Number : 96 Question Id : 54592724740 Question Type : MCQ Option Shuffling : Yes

Correct Marks : 1 Wrong Marks : 0.25

तीन नंबर p, q और r ऐसा है कि, 50% p, q के 30% और 125% q के बराबर है, 45% r के बराबर है। यदि 60% r 900 है, तो p, q और r का योग ज्ञात कीजिए।

Options :

1. ✓ 2364
2. ✗ 2145
3. ✗ 2275
4. ✗ 2486

Question Number : 97 Question Id : 54592724741 Question Type : MCQ Option Shuffling : Yes

Correct Marks : 1 Wrong Marks : 0.25

Two Products A and B are sold by a shopkeeper. A is sold for 15% profit and Its selling price equals the marked price of the B, which is sold for 10% discount and 25% profit. Find the profit percentage on selling both the products (approximately).

Options :

1. ✗ 0.17
2. ✓ 0.195
3. ✗ 0.213
4. ✗ 0.23

Question Number : 97 Question Id : 54592724741 Question Type : MCQ Option Shuffling : Yes

Correct Marks : 1 Wrong Marks : 0.25

दो उत्पाद A और B एक दुकानदार द्वारा बेचे जाते हैं। A को 15% लाभ के लिए बेचा जाता है और इसका विक्रय मूल्य B के चिह्नित मूल्य के बराबर होता है, जो 10% छूट और 25% लाभ के लिए बेचा जाता है। दोनों उत्पादों को बेचने पर लाभ प्रतिशत का पता लगाएं (लगभग)।

Options :

1. ✖ 0.17

2. ✔ 0.195

3. ✖ 0.213

4. ✖ 0.23

Question Number : 98 Question Id : 54592724742 Question Type : MCQ Option Shuffling : Yes

Correct Marks : 1 Wrong Marks : 0.25

By selling 224 apples a trader earns a profit of Rs.2688 and he found that he made 12% profit. Find the total selling of 168 apples.

Options :

1. ✖ Rs.17468

2. ✔ Rs.18816

3. ✖ Rs.18426

4. ✖ Rs.17258

Question Number : 98 Question Id : 54592724742 Question Type : MCQ Option Shuffling : Yes

Correct Marks : 1 Wrong Marks : 0.25

224 सेब बेचने से एक व्यापारी को रु.2688 का लाभ होता है और उसने पाया कि उसने 12% लाभ कमाया। 168 सेब की कुल बिक्री का पता लगाएं।

Options :

1. ✖ ₹17468

2. ✔ ₹18816

3. ✖ ₹18426

4. ✖ ₹17258

Question Number : 99 Question Id : 54592724743 Question Type : MCQ Option Shuffling : Yes

Correct Marks : 1 Wrong Marks : 0.25

Monday a shopkeeper sold a product at 30% discount. Tuesday he sold another product of same kind at 20% discount and earned Rs.180 more. On both the products he earned a profit of 80%. Find cost price of each product.

Options :

1. ✖ Rs.1500
2. ✖ Rs.1800
3. ✖ Rs.900
4. ✔ Rs.750

Question Number : 99 Question Id : 54592724743 Question Type : MCQ Option Shuffling : Yes

Correct Marks : 1 Wrong Marks : 0.25

सोमवार को एक दुकानदार ने 30% छूट पर उत्पाद बेचा। मंगलवार को उसने 20% छूट पर उसी तरह का एक और उत्पाद बेचा और रु.180 अधिक कमाए। दोनों उत्पादों पर उसने 80% का लाभ कमाया। प्रत्येक उत्पाद की लागत मूल्य ज्ञात कीजिए।

Options :

1. ✖ ₹.1500
2. ✖ ₹.1800
3. ✖ ₹.900
4. ✔ ₹.750

Question Number : 100 Question Id : 54592724744 Question Type : MCQ Option Shuffling : Yes

Correct Marks : 1 Wrong Marks : 0.25

Three years ago the ages of Harshal and Anvi were in the ratio of 5 : 4, and six year hence the ratio of their ages will be 8 : 7. What is present age of Anvi?

Options :

1. ✖ 12 years
2. ✔ 15 years

3. * 18 years

4. * 9 years

Question Number : 100 Question Id : 54592724744 Question Type : MCQ Option Shuffling : Yes

Correct Marks : 1 Wrong Marks : 0.25

तीन साल पहले हर्षल और अन्वी की उम्र 5: 4 के अनुपात में थी और छह साल के बाद, उनकी उम्र का अनुपात 8: 7 होगा। वर्तमान में अन्वी की उम्र क्या है?

Options :

1. * 12 वर्ष

2. ✓ 15 वर्ष

3. * 18 वर्ष

4. * 9 वर्ष

Arithmetic Ability2

Group Number :	6
Group Id :	5459271226
Group Maximum Duration :	0
Group Minimum Duration :	0
Show Attended Group? :	No
Edit Attended Group? :	No
Break time:	0
Group Marks:	20
Is this Group for Examiner?:	No
Revisit allowed for group Instructions? :	Yes
Maximum Instruction Time:	0
Minimum Instruction Time:	0

Arithmetic Ability2

Section Id :	5459271226
Section Number :	1
Section type :	Online
Mandatory or Optional:	Mandatory
Number of Questions:	20
Number of Questions to be attempted:	20
Section Marks:	20

Sub-Section Number: 1
Sub-Section Id: 5459271470
Question Shuffling Allowed : Yes

Question Number : 101 Question Id : 54592724745 Question Type : MCQ Option Shuffling : Yes
Correct Marks : 1 Wrong Marks : 0.25

Three person Alok, Ankit and Archit shared some amount among themselves in the ratio of 4 : 6 : 7. If Archit gives Rs.400 to alok and Ankit gives Rs.300 to Alok, then the ratio of amounts with Alok and Archit will be 3 : 4. Find the share of Archit.

Options :

1. * Rs.4800
2. * Rs.5150
3. ✓ Rs.5600
4. * Rs.5960

Question Number : 101 Question Id : 54592724745 Question Type : MCQ Option Shuffling : Yes
Correct Marks : 1 Wrong Marks : 0.25

तीन व्यक्ति आलोक, अंकित और अर्चित ने 4 : 6 : 7. के अनुपात में आपस में कुछ राशि साझा की। अगर अर्चित आलोक को 400 रुपये देता है और अंकित आलोक को 300 रुपये देता है, तो आलोक और अर्चित के पास राशि का अनुपात 3 : 4 होगा। अर्चित का हिस्सा क्या है?

Options :

1. * ₹.4800
2. * ₹.5150
3. ✓ ₹.5600
4. * ₹.5960

Question Number : 102 Question Id : 54592724746 Question Type : MCQ Option Shuffling : Yes
Correct Marks : 1 Wrong Marks : 0.25

Find the third proportional to the numbers $3\frac{1}{2}$, $4\frac{1}{3}$ and $2\frac{1}{6}$.

Options :

1. ✓ $1\frac{3}{4}$

2. ✗ $2\frac{5}{6}$

3. ✗ $1\frac{1}{4}$

4. ✗ $1\frac{2}{3}$

Question Number : 102 Question Id : 54592724746 Question Type : MCQ Option Shuffling : Yes
Correct Marks : 1 Wrong Marks : 0.25

संख्या $3\frac{1}{2}$, $4\frac{1}{3}$ और $2\frac{1}{6}$ के लिए तीसरा आनुपातिक का पता लगाएं

Options :

1. ✓ $1\frac{3}{4}$

2. ✗ $2\frac{5}{6}$

3. ✗ $1\frac{1}{4}$

4. ✖ $1\frac{2}{3}$

Question Number : 103 Question Id : 54592724747 Question Type : MCQ Option Shuffling : Yes
Correct Marks : 1 Wrong Marks : 0.25

Raman invests a total of Rs.48600 in two schemes A and B., both of which offer interests which are compounded annually. A offers 60% p.a. and B offers 40% p.a. If after 3 years the values of the two investments A and B are in the ratio of 5 : 3 respectively, then what was the initial ratio of the investments made in B and A?

Options :

1. ✓ 1536 : 1715

2. ✖ 343 : 512

3. ✖ 1283 : 1296

4. ✖ 113 : 243

Question Number : 103 Question Id : 54592724747 Question Type : MCQ Option Shuffling : Yes
Correct Marks : 1 Wrong Marks : 0.25

रमन दो स्कीमों A और B में कुल रु.48600 का निवेश करता है, दोनों स्कीम चक्रवृद्धि ब्याज (सालाना ब्याज की गणना) देती हैं। A 60% प्रति वर्ष और B 40% प्रति वर्ष ब्याज देती हैं। यदि 3 वर्षों के बाद A और B दोनों निवेशों का मान क्रमशः 5 : 3 के अनुपात में है, तो B और A में किए गए निवेश का प्रारंभिक अनुपात क्या था?

Options :

1. ✓ 1536 : 1715

2. ✖ 343 : 512

3. ✖ 1283 : 1296

4. * 113 : 243

Question Number : 104 Question Id : 54592724748 Question Type : MCQ Option Shuffling : Yes

Correct Marks : 1 Wrong Marks : 0.25

A man borrows Rs.15000 at 12% compound interest per annum compounded half yearly. He pays back Rs.5400 at the end of first six months. Calculate the second payment he has to pay back at the end of the year in order to clear the entire loan.

Options :

1. * Rs.9870

2. * Rs.8530

3. ✓ Rs.11130

4. * Rs.10500

Question Number : 104 Question Id : 54592724748 Question Type : MCQ Option Shuffling : Yes

Correct Marks : 1 Wrong Marks : 0.25

एक व्यक्ति 12% प्रति वर्ष चक्रवृद्धि ब्याज पर (छमाही गणना) रु. 15000 का उधार लेता है। वह पहले छह महीनों के अंत में रु.5400 का भुगतान करता है। पूरे ऋण को चुकाने के लिए उसे वर्ष के अंत में कितना भुगतान करना होगा?

Options :

1. * रु. 9870

2. * रु. 8530

3. ✓ रु.11130

4. * रु. 10500

Question Number : 105 Question Id : 54592724749 Question Type : MCQ Option Shuffling : Yes

Correct Marks : 1 Wrong Marks : 0.25

Amit borrows Rs.12000 from Manoj on compound interest at the rate of 8% per annum for two years. Manoj puts the condition that the rate of interest for first year will be 8% and for second year will be 10%. How much will the Amit have to pay at the end of two years to clear his loan?

Options :

1. * Rs.13486
2. * Rs.16250
3. ✓ Rs.14256
4. * Rs.15802

Question Number : 105 Question Id : 54592724749 Question Type : MCQ Option Shuffling : Yes

Correct Marks : 1 Wrong Marks : 0.25

अमित दो साल के लिए 8% प्रति वर्ष की दर से चक्रवृद्धि ब्याज पर मनोज से 12000 रुपये उधार लेता है। मनोज यह शर्त रखता है कि पहले वर्ष के लिए ब्याज की दर 8% होगी और दूसरे वर्ष के लिए 10% होगी। अमित को अपना ऋण को चुकाने के लिए दो साल के अंत में कितना भुगतान करना होगा?

Options :

1. * ₹.13486
2. * ₹.16250
3. ✓ ₹.14256
4. * ₹. 15802

Question Number : 106 Question Id : 54592724750 Question Type : MCQ Option Shuffling : Yes

Correct Marks : 1 Wrong Marks : 0.25

Ajay travels from his house to his office. If he travelled at 8 kmph he would reach his office 5 minutes late. If he travelled at 12 kmph he would reach his office 5 minutes earlier. Find the distance between his house and his office (in kilometers).

Options :

1. ✖ 12 km
2. ✖ 24 km
3. ✔ 4 km
4. ✖ 6 km

Question Number : 106 Question Id : 54592724750 Question Type : MCQ Option Shuffling : Yes

Correct Marks : 1 Wrong Marks : 0.25

अजय अपने घर से अपने कार्यालय तक यात्रा करता है। यदि वह 8 किमी प्रति घंटे की रफ्तार से यात्रा करता तो वह अपने कार्यालय में 5 मिनट देरी से पहुंचता है। यदि वह 12 किमी प्रति घंटे की रफ्तार से यात्रा करता तो वह 5 मिनट पहले अपने कार्यालय पहुंच जाता है। उसके घर और उसके कार्यालय (किलोमीटर में) के बीच की दूरी ज्ञात कीजिये ।

Options :

1. ✖ 12 किमी
2. ✖ 24 किमी
3. ✔ 4 किमी
4. ✖ 6 किमी

Question Number : 107 Question Id : 54592724751 Question Type : MCQ Option Shuffling : Yes

Correct Marks : 1 Wrong Marks : 0.25

A train is 20% faster than car. Both the train and car starts from a point A and reaches point B at the same time which is 75km away from A. The Train halted for 12.5 mins at stations in between. If the train is 25% faster than car, then how much time will it take to reach the destination?

Options :

1. ✖ 1 hour
2. ✖ 1 hour 25 minutes
3. ✔ 1 hour 12.5 minutes
4. ✖ 1 hour 15 minutes

Question Number : 107 Question Id : 54592724751 Question Type : MCQ Option Shuffling : Yes
Correct Marks : 1 Wrong Marks : 0.25

एक ट्रेन कार से 20% तेज है। ट्रेन और कार दोनों बिंदु A से चलना शुरू होती है और समान समय बिंदु B पर पहुंचती है जो कि बिंदु A से 75 कि.मी. दूर है। ट्रेन बीच में स्टेशनों पर 12.5 मिनट के लिए रूकी। यदि ट्रेन कार से 25% तेज है, तो गंतव्य तक पहुंचने में यह कितना समय लेगी?

Options :

1. ✖ 1 घंटा
2. ✖ 1 घंटा 25 मिनट
3. ✔ 1 घंटा 12.5 मिनट
4. ✖ 1 घंटा 15 मिनट

Question Number : 108 Question Id : 54592724752 Question Type : MCQ Option Shuffling : Yes
Correct Marks : 1 Wrong Marks : 0.25

The area of a square ground is 676 km^2 . How long will it take to run around at the speed of 13 km/h?

Options :

1. ✖ 12 hours
2. ✖ 10 hours
3. ✔ 8 hours
4. ✖ 6 hours

Question Number : 108 Question Id : 54592724752 Question Type : MCQ Option Shuffling : Yes
Correct Marks : 1 Wrong Marks : 0.25

एक वर्गाकार मैदान का क्षेत्रफल 676 वर्ग किमी है। मैदान के चारों ओर 13 किमी/घंटा की गति से दौड़ लगाने में समय ज्ञात कीजिये?

Options :

1. ✖ 12 घंटे
2. ✖ 10 घंटे
3. ✔ 8 घंटे
4. ✖ 6 घंटे

Question Number : 109 Question Id : 54592724753 Question Type : MCQ Option Shuffling : Yes
Correct Marks : 1 Wrong Marks : 0.25

Ten men can do a piece of work in 15 days. How many men are needed to complete a work which is five times as large as the first one, in 10 days?

Options :

1. ✖ 60
2. ✔ 75
3. ✖ 70
4. ✖ 85

Question Number : 109 Question Id : 54592724753 Question Type : MCQ Option Shuffling : Yes
Correct Marks : 1 Wrong Marks : 0.25

15 दिनों में दस व्यक्ति किसी कार्य को पूरा कर सकते हैं। उस कार्य, जो पहले वाले की तुलना में पांच गुना बड़ा हो, को 10 दिनों में पूरा करने के लिए कितने व्यक्तियों की आवश्यकता होगी?

Options :

1. ✖ 60
2. ✔ 75
3. ✖ 70
4. ✖ 85

Question Number : 110 Question Id : 54592724754 Question Type : MCQ Option Shuffling : Yes
Correct Marks : 1 Wrong Marks : 0.25

Due to leakage in a tank it would take half an hour longer than usual time to full. Usual time to fill this tank is 3.5 hours. If the tank is full of water, how long would it take to empty itself if water starts leaking out at double the usual rate once the tank is half empty?

Options :

1. ✖ 14 hours
2. ✖ 7 hours
3. ✔ 21 hours
4. ✖ 28 hours

Question Number : 110 Question Id : 54592724754 Question Type : MCQ Option Shuffling : Yes
Correct Marks : 1 Wrong Marks : 0.25

एक टैंक में रिसाव के कारण टैंक को पूरा भरने में सामान्य समय से आधा घंटा अधिक लगेगा। इस टैंक को भरने का सामान्य समय 3.5 घंटे है। यदि टैंक पानी से भरा हुआ है और यदि टैंक के आधे खाली होने के बाद पानी का सामान्य दर से दोगूने दर पर रिसाव होता है, तो टैंक कितने समय में खाली होगा?

Options :

1. ✖ 14 घंटे
2. ✖ 7 घंटे
3. ✔ 21 घंटे
4. ✖ 28 घंटे

Question Number : 111 Question Id : 54592724755 Question Type : MCQ Option Shuffling : Yes

Correct Marks : 1 Wrong Marks : 0.25

A and B can complete a work in 20 days and 30 days respectively. If they work on alternate days, then find the number of days in which the work will be completed.

Options :

1. ✔ 24 days
2. ✖ 60 days
3. ✖ 10 days
4. ✖ 12 days

Question Number : 111 Question Id : 54592724755 Question Type : MCQ Option Shuffling : Yes

Correct Marks : 1 Wrong Marks : 0.25

A और B क्रमशः 20 दिनों और 30 दिनों में एक कार्य पूरा कर सकते हैं। यदि वे वैकल्पिक दिनों में काम करते हैं, तो उन दिनों की संख्या ज्ञात करें जिनमें काम पूरा हो जाएगा।

Options :

1. ✔ 24 दिन
2. ✖ 60 दिन
3. ✖ 10 दिन
4. ✖ 12 दिन

Question Number : 112 Question Id : 54592724756 Question Type : MCQ Option Shuffling : Yes

Correct Marks : 1 Wrong Marks : 0.25

A large sphere of surface area 2464 square cm is melted and recast into three small spheres. If the radii of two of the three spheres is 11 cm and 7 cm respectively, then what is the approximate surface area of the third sphere?

Options :

1. ✖ 1285 sq.cm
2. ✖ 1295 sq.cm
3. ✖ 1305 sq.cm
4. ✔ 1315 sq.cm

Question Number : 112 Question Id : 54592724756 Question Type : MCQ Option Shuffling : Yes

Correct Marks : 1 Wrong Marks : 0.25

2464 वर्ग से.मी. पृष्ठीय क्षेत्रफल का एक बड़ा गोला पिघलाया जाता है और तीन छोटे गोलों में ढाला जाता है। यदि तीनों गोलों में से दो की त्रिज्या क्रमशः 11 से.मी. और 7 से.मी. है, तो तीसरे गोले का अनुमानित पृष्ठीय क्षेत्रफल कितना है?

Options :

1. ✖ 1285 वर्ग से.मी.
2. ✖ 1295 वर्ग से.मी.
3. ✖ 1305 वर्ग से.मी.
4. ✔ 1315 वर्ग से.मी.

Question Number : 113 Question Id : 54592724757 Question Type : MCQ Option Shuffling : Yes

Correct Marks : 1 Wrong Marks : 0.25

If the base of a parallelogram is 9 cm and the height of the parallelogram is 6 cm, find the area of the parallelogram.

Options :

1. ✔ 54 sq.cm.
2. ✖ 60 sq.cm.

3. * 65 sq.cm.

4. * 70 sq.cm.

Question Number : 113 Question Id : 54592724757 Question Type : MCQ Option Shuffling : Yes

Correct Marks : 1 Wrong Marks : 0.25

यदि समांतर चतुर्भुज का आधार 9 सेमी है और समांतर चतुर्भुज की ऊंचाई 6 सेमी है, तो समांतर चतुर्भुज का क्षेत्रफल ज्ञात कीजिए।

Options :

1. ✓ 54 वर्ग सेमी

2. * 60 वर्ग सेमी

3. * 65 वर्ग सेमी

4. * 70 वर्ग सेमी

Question Number : 114 Question Id : 54592724758 Question Type : MCQ Option Shuffling : Yes

Correct Marks : 1 Wrong Marks : 0.25

The length of a rectangular plot is 30% more than its breadth. If the difference between the length and breadth is 12 m, then, the area of the rectangle is:

Options :

1. ✓ 2080 sq m.

2. * 2160 sq m.

3. * 2744 sq m.

4. * 2000 sq m.

Question Number : 114 Question Id : 54592724758 Question Type : MCQ Option Shuffling : Yes

Correct Marks : 1 Wrong Marks : 0.25

एक आयताकार भूखंड की लंबाई इसकी चौड़ाई से 30% अधिक है। यदि लंबाई और चौड़ाई के बीच का अंतर 12 मीटर है, तो फिर, आयताकार भूखंड का क्षेत्रफल ज्ञात कीजिए।

Options :

1. ✓ 2080 वर्ग मी.

2. ✗ 2160 वर्ग मी.

3. ✗ 2744 वर्ग मी.

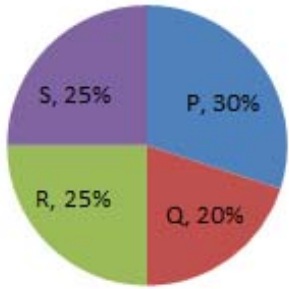
4. ✗ 2000 वर्ग मी.

Question Number : 115 Question Id : 54592724759 Question Type : MCQ Option Shuffling : Yes
Correct Marks : 1 Wrong Marks : 0.25

Study the following graph carefully to answer these questions:

Graph shows the distribution of 120 parliamentary constituencies in different states.

राज्य



Find the total number of seats in states P and R.

Options :

1. ✗ 60

2. ✗ 50

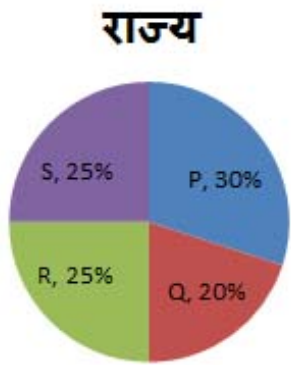
3. ✓ 66

4. ✗ 75

Question Number : 115 Question Id : 54592724759 Question Type : MCQ Option Shuffling : Yes
Correct Marks : 1 Wrong Marks : 0.25

निम्नलिखित प्रश्नों का उत्तर देने के लिए सावधानीपूर्वक ग्राफ का अध्ययन करें

दिया गया ग्राफ विभिन्न राज्यों के 120 संसदीय निर्वाचन क्षेत्र को दर्शाता है।



राज्य P और R में सीटों की कुल संख्या ज्ञात करें ।

Options :

1. ✘ 60
2. ✘ 50
3. ✔ 66
4. ✘ 75

Question Number : 116 Question Id : 54592724760 Question Type : MCQ Option Shuffling : Yes
Correct Marks : 1 Wrong Marks : 0.25

Study the following table carefully to answer these questions:

Number of Male and Female participating in a Function from five different cities A, B, C, D and E

State	Male	Female
A	600	250
B	400	515
C	325	375
D	300	800
E	450	750

What is the respective ratio of the total number of male participating in the Function from cities D and E together to the total number of female participating in the Function from cities A and B together?

Options :

1. ✖ 47 : 59

2. ✔ 150 : 153

3. ✖ 34 : 23

4. ✖ 147 : 132

Question Number : 116 Question Id : 54592724760 Question Type : MCQ Option Shuffling : Yes

Correct Marks : 1 Wrong Marks : 0.25

निम्नलिखित प्रश्नों का उत्तर देने के लिए सावधानीपूर्वक निम्नलिखित तालिका का अध्ययन करें:

पांच विभिन्न शहर A, B, C, D और E से एक समारोह में शामिल हो रहे पुरुष और महिला की संख्या।

राज्य	पुरुष	महिला
A	600	250
B	400	515
C	325	375
D	300	800
E	450	750

शहर D और E से समारोह में शामिल कुल पुरुष की संख्या तथा शहर A और B से समारोह में शामिल महिला की संख्या का क्रमशः अनुपात क्या है?

Options :

- ✘ 47 : 59
- ✔ 150 : 153
- ✘ 34 : 23
- ✘ 147 : 132

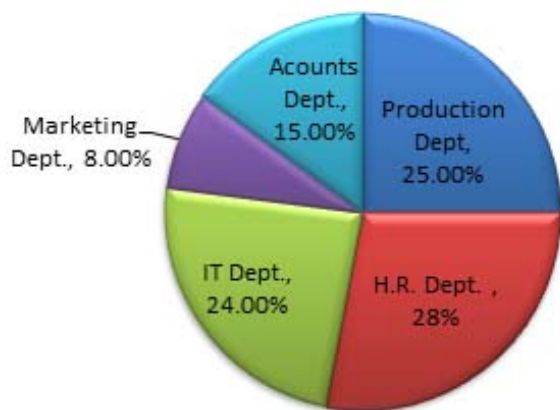
Question Number : 117 Question Id : 54592724761 Question Type : MCQ Option Shuffling : Yes
Correct Marks : 1 Wrong Marks : 0.25

Study the following pie charts carefully to answer the questions.

Pie chart shows the no. of employees working in various departments of an organization.

Total Number of Employees = 5000

Pie-Chart



What is the respective ratio of the number of employee working in the HR department and the number of employee working in the IT department?

Options :

1. ✘ 1 : 5
2. ✔ 7 : 6
3. ✘ 3 : 5
4. ✘ 2 : 9

Question Number : 117 Question Id : 54592724761 Question Type : MCQ Option Shuffling : Yes
Correct Marks : 1 Wrong Marks : 0.25

निम्नलिखित प्रश्नों का उत्तर देने के लिए निम्नलिखित पाई चार्ट का ध्यानपूर्वक अध्ययन करें।

पाई चार्ट विभिन्न विभागों में काम करने वाले कर्मचारियों के प्रतिशत को दर्शाता है।

कर्मचारियों की कुल संख्या = 5000

Pie-Chart



मानव संसाधन विभाग में काम करने वाली कर्मचारी की संख्या और आईटी विभाग में काम करने वाले कर्मचारी की संख्या का क्रमशः अनुपात क्या है?

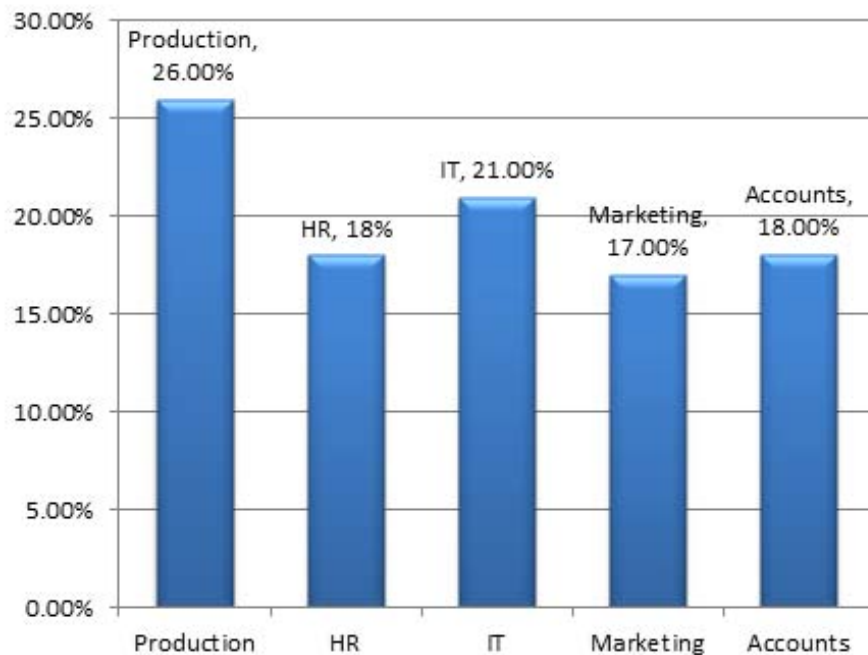
Options :

1. ✘ 1 : 5
2. ✔ 7 : 6
3. ✘ 3 : 5
4. ✘ 2 : 9

Study the following graph carefully to answer the questions.

Bar graph represents the Percentage of employees working in various departments of an organization.

Total Number of Employees = 9000



What is the number of employee working in the Marketing department?

Options :

1. ✘ 960
2. ✘ 1450
3. ✔ 1530
4. ✘ 1250

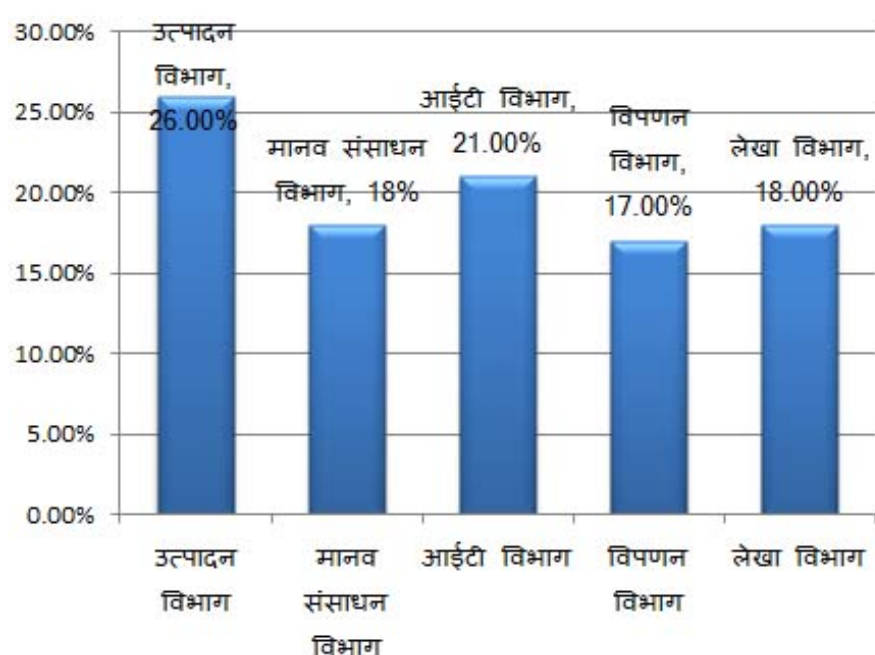
Question Number : 118 Question Id : 54592724762 Question Type : MCQ Option Shuffling : Yes

Correct Marks : 1 Wrong Marks : 0.25

निम्नलिखित प्रश्नों का उत्तर देने के लिए निम्नलिखित ग्राफ का ध्यानपूर्वक अध्ययन करें।

बार ग्राफ विभिन्न विभागों में काम करने वाले कर्मचारियों के प्रतिशत को दर्शाता है और,

कर्मचारियों की कुल संख्या = 9000



विपणन विभाग में काम करने वाले कर्मचारी की संख्या कितनी है?

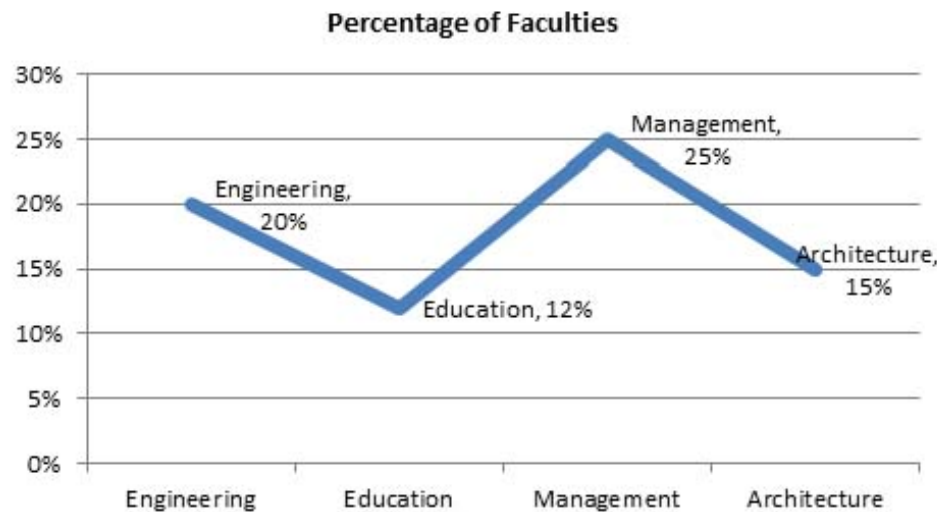
Options :

- ✘ 960
- ✘ 1450
- ✔ 1530
- ✘ 1250

Study the following graph carefully to answer these questions:

Percentage wise Distribution of faculty in different Departments.

Total number of Faculties = 7200



Total number of Faculties in Engineering is what percent of total number of faculties of management?

Options :

1. ✘ 25%

2. ✘ 60%

3. ✔ 80%

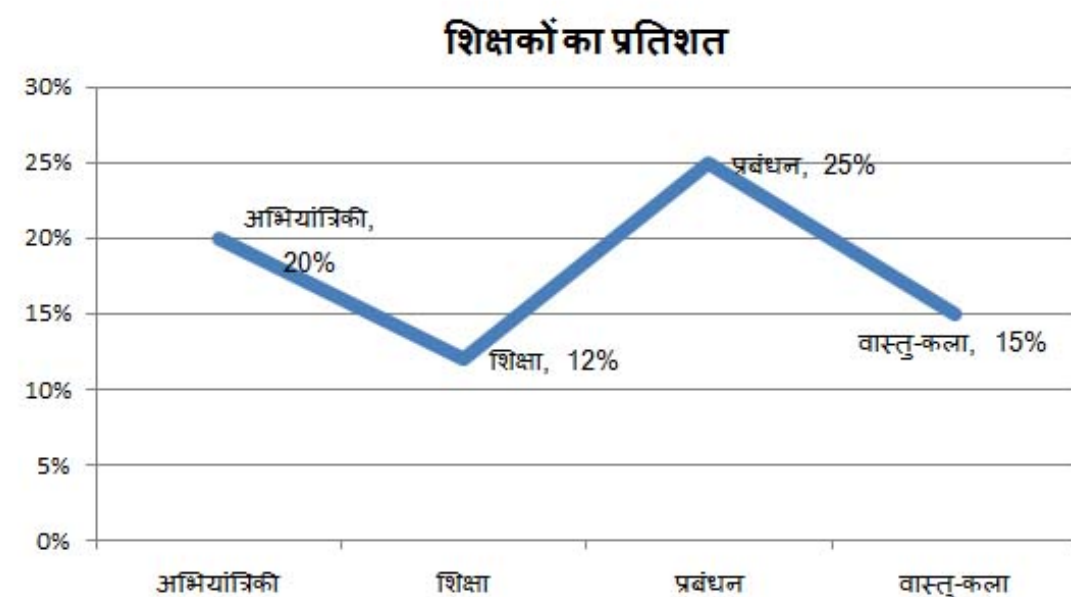
4. ✘ 75%

Question Number : 119 Question Id : 54592724763 Question Type : MCQ Option Shuffling : Yes

Correct Marks : 1 Wrong Marks : 0.25

निम्नलिखित प्रश्नों का उत्तर देने के लिए सावधानीपूर्वक ग्राफ का अध्ययन करें।

विभिन्न विभागों में शिक्षकों का प्रतिशत वितरण
शिक्षकों की कुल संख्या = 7200



अभियांत्रिकी में शिक्षकों की कुल संख्या प्रबंधन में शिक्षकों की कुल संख्या का कितना प्रतिशत है?

Options :

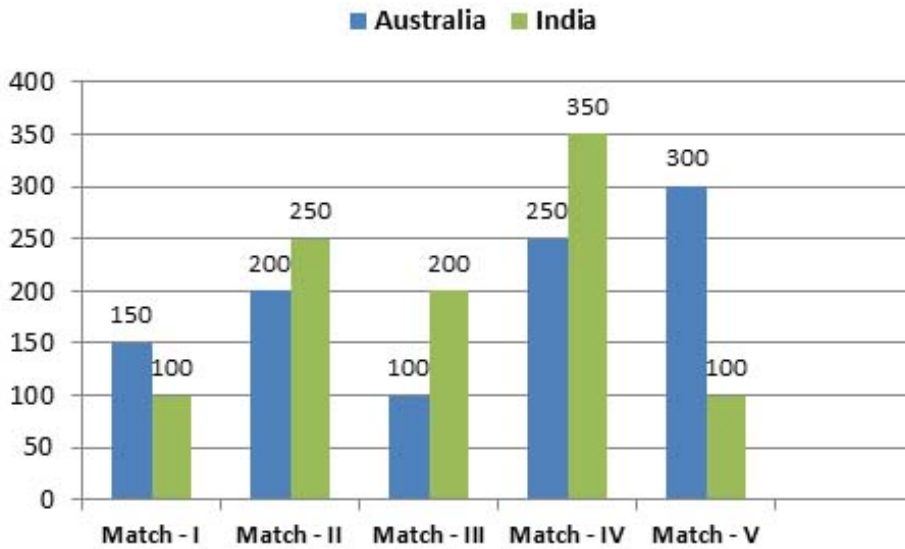
1. ✘ 25%
2. ✘ 60%
3. ✔ 80%
4. ✘ 75%

Question Number : 120 Question Id : 54592724764 Question Type : MCQ Option Shuffling : Yes

Correct Marks : 1 Wrong Marks : 0.25

Study the following graph carefully to answer these questions:

The runs scored by 2 teams in a series of 5 different cricket matches.



What is the ratio between the number of runs scored by Australia in match II and IV to that by India in match IV and V?

Options :

1. ✖ 1 : 2

2. ✖ 2 : 1

3. ✖ 3 : 1

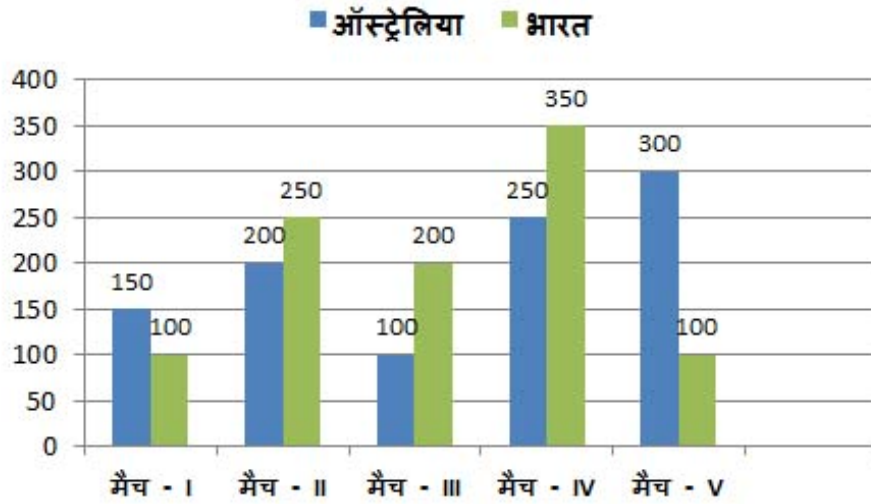
4. ✔ 1 : 1

Question Number : 120 Question Id : 54592724764 Question Type : MCQ Option Shuffling : Yes

Correct Marks : 1 Wrong Marks : 0.25

निम्नलिखित प्रश्नों का उत्तर देने के लिए सावधानीपूर्वक ग्राफ का अध्ययन करें।

एक श्रृंखला के 5 विभिन्न क्रिकेट मैच में 2 टीमों द्वारा स्कोर किये गये रनों की संख्या।



मैच II और IV में ऑस्ट्रेलिया द्वारा स्कोर किये गये रनों की संख्या और मैच IV और V में भारत द्वारा स्कोर किये गये रनों की संख्या के बीच क्रमशः अनुपात क्या है?

Options :

1. ✖ 1 : 2
2. ✖ 2 : 1
3. ✖ 3 : 1
4. ✔ 1 : 1

General English1

Group Number :

7

Group Id :

5459271227

Group Maximum Duration :	0
Group Minimum Duration :	0
Show Attended Group? :	No
Edit Attended Group? :	No
Break time:	0
Group Marks:	20
Is this Group for Examiner?:	No
Revisit allowed for group Instructions? :	Yes
Maximum Instruction Time:	0
Minimum Instruction Time:	0

General English1

Section Id :	5459271227
Section Number :	1
Section type :	Online
Mandatory or Optional:	Mandatory
Number of Questions:	20
Number of Questions to be attempted:	20
Section Marks:	20

Sub-Section Number:	1
Sub-Section Id:	5459271471
Question Shuffling Allowed :	Yes

Question Number : 121 Question Id : 54592724765 Question Type : MCQ Option Shuffling : Yes
Correct Marks : 1 Wrong Marks : 0.25

Identify the segment in the sentence which contains the grammatical error from the given options.

Many kids today are well aware that Pluto use to be considered a planet.

Options :

1. ✖ Many kids today
2. ✖ are well aware
3. ✔ that Pluto use to be
4. ✖ considered a planet.

Question Number : 121 Question Id : 54592724765 Question Type : MCQ Option Shuffling : Yes
Correct Marks : 1 Wrong Marks : 0.25

Identify the segment in the sentence which contains the grammatical error from the given options.

Many kids today are well aware that Pluto use to be considered a planet.

Options :

1. ✖ Many kids today
2. ✖ are well aware
3. ✔ that Pluto use to be
4. ✖ considered a planet.

Question Number : 122 Question Id : 54592724766 Question Type : MCQ Option Shuffling : Yes
Correct Marks : 1 Wrong Marks : 0.25

Identify the segment in the sentence which contains the grammatical error from the given options.

Thanks to our core, Earth is wrapped in a magnetic sheath that protected the planet from harmful radiation.

Options :

1. ✖ Thanks to our dynamic core,
2. ✖ Earth is wrapped in a magnetic
3. ✔ sheath that protected the planet
4. ✖ from harmful radiation.

Question Number : 122 Question Id : 54592724766 Question Type : MCQ Option Shuffling : Yes
Correct Marks : 1 Wrong Marks : 0.25

Identify the segment in the sentence which contains the grammatical error from the given options.

Thanks to our core, Earth is wrapped in a magnetic sheath that protected the planet from harmful radiation.

Options :

1. ✖ Thanks to our dynamic core,
2. ✖ Earth is wrapped in a magnetic
3. ✔ sheath that protected the planet
4. ✖ from harmful radiation.

Question Number : 123 Question Id : 54592724767 Question Type : MCQ Option Shuffling : Yes
Correct Marks : 1 Wrong Marks : 0.25

Identify the segment in the sentence which contains the grammatical error from the given options.

Self-care, which mostly happen outside the formal health system, is nothing new.

Options :

1. ✖ Self-care, which mostly
2. ✔ happen outside the
3. ✖ formal health system
4. ✖ is nothing new.

Question Number : 123 Question Id : 54592724767 Question Type : MCQ Option Shuffling : Yes

Correct Marks : 1 Wrong Marks : 0.25

Identify the segment in the sentence which contains the grammatical error from the given options.

Self-care, which mostly happen outside the formal health system, is nothing new.

Options :

1. ✖ Self-care, which mostly
2. ✔ happen outside the
3. ✖ formal health system
4. ✖ is nothing new.

Question Number : 124 Question Id : 54592724768 Question Type : MCQ Option Shuffling : Yes

Correct Marks : 1 Wrong Marks : 0.25

Identify the segment in the sentence which contains the grammatical error from the given options.

According to the WHO, over 400 million people across the world lack access for essential health services.

Options :

1. ✖ According to the WHO,
2. ✖ over 400 million people across the world

3. ✓ lack access for

4. ✗ essential health services.

Question Number : 124 Question Id : 54592724768 Question Type : MCQ Option Shuffling : Yes

Correct Marks : 1 Wrong Marks : 0.25

Identify the segment in the sentence which contains the grammatical error from the given options.

According to the WHO, over 400 million people across the world lack access for essential health services.

Options :

1. ✗ According to the WHO,

2. ✗ over 400 million people across the world

3. ✓ lack access for

4. ✗ essential health services.

Question Number : 125 Question Id : 54592724769 Question Type : MCQ Option Shuffling : Yes

Correct Marks : 1 Wrong Marks : 0.25

Identify the segment in the sentence which contains the grammatical error from the given options.

The Silver Royal Butterfly is a very rare species that we have spot once in 2016, and again now.

Options :

1. ✗ The Silver Royal Butterfly

2. ✗ is a very rare species

3. ✓ that we have spot

4. ✖ once in 2016, and again now.

Question Number : 125 Question Id : 54592724769 Question Type : MCQ Option Shuffling : Yes

Correct Marks : 1 Wrong Marks : 0.25

Identify the segment in the sentence which contains the grammatical error from the given options.

The Silver Royal Butterfly is a very rare species that we have spot once in 2016, and again now.

Options :

1. ✖ The Silver Royal Butterfly

2. ✖ is a very rare species

3. ✓ that we have spot

4. ✖ once in 2016, and again now.

Question Number : 126 Question Id : 54592724770 Question Type : MCQ Option Shuffling : Yes

Correct Marks : 1 Wrong Marks : 0.25

Select the most appropriate option to substitute the underlined segment in the given sentence. If there is no need to substitute it, select option No substitution required.

Global warming is like have being in a mine field that gets progressively more dangerous.

Options :

1. ✖ been in a mine field

2. ✓ being in a mine field

3. ✖ be in a mine field

4. ✖ No substitution required

Question Number : 126 Question Id : 54592724770 Question Type : MCQ Option Shuffling : Yes
Correct Marks : 1 Wrong Marks : 0.25

Select the most appropriate option to substitute the underlined segment in the given sentence. If there is no need to substitute it, select option No substitution required.

Global warming is like have being in a mine field that gets progressively more dangerous.

Options :

1. ✖ been in a mine field

2. ✔ being in a mine field

3. ✖ be in a mine field

4. ✖ No substitution required

Question Number : 127 Question Id : 54592724771 Question Type : MCQ Option Shuffling : Yes
Correct Marks : 1 Wrong Marks : 0.25

Select the most appropriate option to substitute the underlined segment in the given sentence. If there is no need to substitute it, select option No substitution required.

Most carpet aren't make from natural fibers, it's made from synthetic materials such as nylon or polyester.

Options :

1. ✖ do not make from
2. ✔ isn't made from
3. ✖ are make from
4. ✖ No substitution required

Question Number : 127 Question Id : 54592724771 Question Type : MCQ Option Shuffling : Yes
Correct Marks : 1 Wrong Marks : 0.25

Select the most appropriate option to substitute the underlined segment in the given sentence. If there is no need to substitute it, select option No substitution required.

Most carpet aren't make from natural fibers, it's made from synthetic materials such as nylon or polyester.

Options :

1. ✖ do not make from
2. ✔ isn't made from
3. ✖ are make from
4. ✖ No substitution required

Question Number : 128 Question Id : 54592724772 Question Type : MCQ Option Shuffling : Yes
Correct Marks : 1 Wrong Marks : 0.25

Select the most appropriate option to substitute the underlined segment in the given sentence. If there is no need to substitute it, select option No substitution required.

The Central Railway has decided to run local trains in limited corridors as for water logging on the railway tracks.

Options :

1. ✖ because water logging in
2. ✖ in spite of water logging on
3. ✔ due to water logging on
4. ✖ No substitution required

Question Number : 128 Question Id : 54592724772 Question Type : MCQ Option Shuffling : Yes
Correct Marks : 1 Wrong Marks : 0.25

Select the most appropriate option to substitute the underlined segment in the given sentence. If there is no need to substitute it, select option No substitution required.

The Central Railway has decided to run local trains in limited corridors as for water logging on the railway tracks.

Options :

1. ✖ because water logging in
2. ✖ in spite of water logging on
3. ✔ due to water logging on

4. ✖ No substitution required

Question Number : 129 Question Id : 54592724773 Question Type : MCQ Option Shuffling : Yes
Correct Marks : 1 Wrong Marks : 0.25

Select the most appropriate option to substitute the underlined segment in the given sentence. If there is no need to substitute it, select option No substitution required.

Turkey, with a population of more than 80 million, now hosts the largest refugee population in the world.

Options :

1. ✖ host the larger
2. ✖ host largest
3. ✖ hosting the larger
4. ✔ No substitution required

Question Number : 129 Question Id : 54592724773 Question Type : MCQ Option Shuffling : Yes
Correct Marks : 1 Wrong Marks : 0.25

Select the most appropriate option to substitute the underlined segment in the given sentence. If there is no need to substitute it, select option No substitution required.

Turkey, with a population of more than 80 million, now hosts the largest refugee population in the world.

Options :

1. ✖ host the larger
2. ✖ host largest
3. ✖ hosting the larger
4. ✔ No substitution required

Question Number : 130 Question Id : 54592724774 Question Type : MCQ Option Shuffling : Yes

Correct Marks : 1 Wrong Marks : 0.25

Select the most appropriate option to substitute the underlined segment in the given sentence. If there is no need to substitute it, select option No substitution required.

Cutlery can took century to break down naturally, giving the plastic waste ample time to work its way into the environment.

Options :

1. ✓ take centuries to break down
2. ✗ taking century to break
3. ✗ took centuries to break off
4. ✗ No substitution required

Question Number : 130 Question Id : 54592724774 Question Type : MCQ Option Shuffling : Yes

Correct Marks : 1 Wrong Marks : 0.25

Select the most appropriate option to substitute the underlined segment in the given sentence. If there is no need to substitute it, select option No substitution required.

Cutlery can took century to break down naturally, giving the plastic waste ample time to work its way into the environment.

Options :

1. ✓ take centuries to break down

2. ✖ taking century to break
3. ✖ took centuries to break off
4. ✖ No substitution required

Question Number : 131 Question Id : 54592724775 Question Type : MCQ Option Shuffling : Yes
Correct Marks : 1 Wrong Marks : 0.25

Select the most appropriate word to fill in the blank.

_____ a total solar eclipse, the moon passes in front of the sun and casts its shadow on the Earth.

Options :

1. ✔ During
2. ✖ While
3. ✖ In case
4. ✖ When

Question Number : 131 Question Id : 54592724775 Question Type : MCQ Option Shuffling : Yes
Correct Marks : 1 Wrong Marks : 0.25

Select the most appropriate word to fill in the blank.

_____ a total solar eclipse, the moon passes in front of the sun and casts its shadow on the Earth.

Options :

1. ✔ During
2. ✖ While
3. ✖ In case

4. ✖ When

Question Number : 132 Question Id : 54592724776 Question Type : MCQ Option Shuffling : Yes
Correct Marks : 1 Wrong Marks : 0.25

Select the most appropriate word to fill in the blank.

Economic growth is high on the agenda of the government and various reforms are being _____.

Options :

1. ✖ undertake
2. ✔ undertaken
3. ✖ undertook
4. ✖ undertaking

Question Number : 132 Question Id : 54592724776 Question Type : MCQ Option Shuffling : Yes
Correct Marks : 1 Wrong Marks : 0.25

Select the most appropriate word to fill in the blank.

Economic growth is high on the agenda of the government and various reforms are being _____.

Options :

1. ✖ undertake
2. ✔ undertaken
3. ✖ undertook
4. ✖ undertaking

Question Number : 133 Question Id : 54592724777 Question Type : MCQ Option Shuffling : Yes
Correct Marks : 1 Wrong Marks : 0.25

Select the most appropriate word to fill in the blank.

Letter writing is nearly forgotten as an activity and of those who claim to still write them, we speak _____ wonder.

Options :

1. ✖ of
2. ✖ at
3. ✔ with
4. ✖ in

Question Number : 133 Question Id : 54592724777 Question Type : MCQ Option Shuffling : Yes
Correct Marks : 1 Wrong Marks : 0.25

Select the most appropriate word to fill in the blank.

Letter writing is nearly forgotten as an activity and of those who claim to still write them, we speak _____ wonder.

Options :

1. ✖ of
2. ✖ at
3. ✔ with
4. ✖ in

Question Number : 134 Question Id : 54592724778 Question Type : MCQ Option Shuffling : Yes
Correct Marks : 1 Wrong Marks : 0.25

Select the most appropriate word to fill in the blank.

Some frogs are able to grow bigger heads and fangs, which enable them to eat their kin and grow _____.

Options :

1. ✖ fast
2. ✔ faster
3. ✖ fastest
4. ✖ more faster

Question Number : 134 Question Id : 54592724778 Question Type : MCQ Option Shuffling : Yes
Correct Marks : 1 Wrong Marks : 0.25

Select the most appropriate word to fill in the blank.

Some frogs are able to grow bigger heads and fangs, which enable them to eat their kin and grow _____.

Options :

1. ✖ fast
2. ✔ faster
3. ✖ fastest
4. ✖ more faster

Question Number : 135 Question Id : 54592724779 Question Type : MCQ Option Shuffling : Yes
Correct Marks : 1 Wrong Marks : 0.25

Select the most appropriate word to fill in the blank.

The Asian arowana, also known as the dragon fish, is believed _____ the Chinese to bring good luck and prosperity.

Options :

1. ✓ by
2. ✗ in
3. ✗ to be
4. ✗ with

Question Number : 135 Question Id : 54592724779 Question Type : MCQ Option Shuffling : Yes
Correct Marks : 1 Wrong Marks : 0.25

Select the most appropriate word to fill in the blank.

The Asian arowana, also known as the dragon fish, is believed _____ the Chinese to bring good luck and prosperity.

Options :

1. ✓ by
2. ✗ in
3. ✗ to be
4. ✗ with

Question Number : 136 Question Id : 54592724780 Question Type : MCQ Option Shuffling : Yes
Correct Marks : 1 Wrong Marks : 0.25

Select the most appropriate word to fill in the blank.

_____ studying at the University of Colima, I began exploring Mexico, crossing the country several times by bus.

Options :

1. ✖ As
2. ✔ While
3. ✖ During
4. ✖ Since

Question Number : 136 Question Id : 54592724780 Question Type : MCQ Option Shuffling : Yes
Correct Marks : 1 Wrong Marks : 0.25

Select the most appropriate word to fill in the blank.

_____ studying at the University of Colima, I began exploring Mexico, crossing the country several times by bus.

Options :

1. ✖ As
2. ✔ While
3. ✖ During
4. ✖ Since

Question Number : 137 Question Id : 54592724781 Question Type : MCQ Option Shuffling : Yes
Correct Marks : 1 Wrong Marks : 0.25

Select the most appropriate word to fill in the blank.

Jellyfish were previously thought to be a dead end for the food web _____ their low nutritional content.

Options :

1. ✖ as with
2. ✖ ever since
3. ✔ due to
4. ✖ as of

Question Number : 137 Question Id : 54592724781 Question Type : MCQ Option Shuffling : Yes
Correct Marks : 1 Wrong Marks : 0.25

Select the most appropriate word to fill in the blank.

Jellyfish were previously thought to be a dead end for the food web _____ their low nutritional content.

Options :

1. ✖ as with
2. ✖ ever since
3. ✔ due to
4. ✖ as of

Question Number : 138 Question Id : 54592724782 Question Type : MCQ Option Shuffling : Yes
Correct Marks : 1 Wrong Marks : 0.25

Select the most appropriate word to fill in the blank.

Some species of penguins are also adapting to jellies as an alternative source _____ food.

Options :

1. ✖ to
2. ✔ of
3. ✖ by
4. ✖ for

Question Number : 138 Question Id : 54592724782 Question Type : MCQ Option Shuffling : Yes
Correct Marks : 1 Wrong Marks : 0.25

Select the most appropriate word to fill in the blank.

Some species of penguins are also adapting to jellies as an alternative source _____ food.

Options :

1. ✖ to
2. ✔ of
3. ✖ by
4. ✖ for

Question Number : 139 Question Id : 54592724783 Question Type : MCQ Option Shuffling : Yes
Correct Marks : 1 Wrong Marks : 0.25

Rearrange the following sentences in their correct order to form a meaningful paragraph.

A: Today, as he performs an average of 140 shows every year, he balances a passion for work with a desire to get out and explore every city he visits.

B: To Ali Shirazinia, identity has more to do with spirit than ethnicity or geography.

C: After immigrating to the United States from Iran as a small child, Ali learned how to make personal and cultural connections through the universal language of music.

D: Known the world over as Dubfire, Ali brings a global perspective to his work as a celebrated, award-winning musician, house and techno DJ and producer.

Options :

1. ✓ **BDCA**

2. ✗ **BDAC**

3. ✗ **BCDA**

4. ✗ **BCAD**

Question Number : 139 Question Id : 54592724783 Question Type : MCQ Option Shuffling : Yes

Correct Marks : 1 Wrong Marks : 0.25

Rearrange the following sentences in their correct order to form a meaningful paragraph.

A: Today, as he performs an average of 140 shows every year, he balances a passion for work with a desire to get out and explore every city he visits.

B: To Ali Shirazinia, identity has more to do with spirit than ethnicity or geography.

C: After immigrating to the United States from Iran as a small child, Ali learned how to make personal and cultural connections through the universal language of music.

D: Known the world over as Dubfire, Ali brings a global perspective to his work as a celebrated, award-winning musician, house and techno DJ and producer.

Options :

1. ✓ BDCA

2. ✗ BDAC

3. ✗ BCDA

4. ✗ BCAD

Question Number : 140 Question Id : 54592724784 Question Type : MCQ Option Shuffling : Yes
Correct Marks : 1 Wrong Marks : 0.25

A sentence has four parts, rearrange the given parts so as to form a meaningful sentence.

A: on Wednesday morning with public transport

B: resuming services after torrential rains,

C: India's financial capital Mumbai, limped back to normalcy

D: that lashed the city, subsided.

Options :

1. ✖ CDAB

2. ✔ CABD

3. ✖ CBAD

4. ✖ CDBA

Question Number : 140 Question Id : 54592724784 Question Type : MCQ Option Shuffling : Yes

Correct Marks : 1 Wrong Marks : 0.25

A sentence has four parts, rearrange the given parts so as to form a meaningful sentence.

A: on Wednesday morning with public transport

B: resuming services after torrential rains,

C: India's financial capital Mumbai, limped back to normalcy

D: that lashed the city, subsided.

Options :

1. ✖ CDAB

2. ✔ CABD

3. ✖ CBAD

4. ✖ CDBA

General English2

Group Number :	8
Group Id :	5459271228
Group Maximum Duration :	0
Group Minimum Duration :	0
Show Attended Group? :	No
Edit Attended Group? :	No
Break time:	0
Group Marks:	20
Is this Group for Examiner?:	No
Revisit allowed for group Instructions? :	Yes
Maximum Instruction Time:	0
Minimum Instruction Time:	0

General English2

Section Id :	5459271228
Section Number :	1
Section type :	Online
Mandatory or Optional:	Mandatory
Number of Questions:	16
Number of Questions to be attempted:	16
Section Marks:	20

Sub-Section Number:	1
Sub-Section Id:	5459271472
Question Shuffling Allowed :	Yes

**Question Number : 141 Question Id : 54592724785 Question Type : MCQ Option Shuffling : Yes
Correct Marks : 1 Wrong Marks : 0.25**

Rearrange the following sentences in their correct order to form a meaningful paragraph.

A: Bangladesh, meanwhile, bid farewell to its last-four hopes.

B: The victory propelled India to 13 points, just behind current topper Australia.

C: Oscillating between clear skies and a canopy of clouds, Virat Kohli's men defeated Bangladesh by 28 runs to register their sixth triumph.

D: The Men in Blue secured their tryst with the World Cup semifinal.

Options :

1. ✖ DCAB

2. ✖ BADC

3. ✔ DCBA

4. ✖ BACD

Question Number : 141 Question Id : 54592724785 Question Type : MCQ Option Shuffling : Yes

Correct Marks : 1 Wrong Marks : 0.25

Rearrange the following sentences in their correct order to form a meaningful paragraph.

A: Bangladesh, meanwhile, bid farewell to its last-four hopes.

B: The victory propelled India to 13 points, just behind current topper Australia.

C: Oscillating between clear skies and a canopy of clouds, Virat Kohli's men defeated Bangladesh by 28 runs to register their sixth triumph.

D: The Men in Blue secured their tryst with the World Cup semifinal.

Options :

1. ✘ DCAB

2. ✘ BADC

3. ✔ DCBA

4. ✘ BACD

Question Number : 142 Question Id : 54592724786 Question Type : MCQ Option Shuffling : Yes

Correct Marks : 1 Wrong Marks : 0.25

Select the synonym of the given word.

Hazardous

Options :

1. ✔ Risky

2. ✘ Noted

3. ✖ Laughable

4. ✖ Involved

Question Number : 142 Question Id : 54592724786 Question Type : MCQ Option Shuffling : Yes
Correct Marks : 1 Wrong Marks : 0.25

Select the synonym of the given word.

Hazardous

Options :

1. ✔ Risky

2. ✖ Noted

3. ✖ Laughable

4. ✖ Involved

Question Number : 143 Question Id : 54592724787 Question Type : MCQ Option Shuffling : Yes
Correct Marks : 1 Wrong Marks : 0.25

Select the antonym of the given word.

Conceal

Options :

1. ✖ Shrink

2. ✔ Unwrap

3. ✖ Absorb

4. ✖ Occupy

Question Number : 143 Question Id : 54592724787 Question Type : MCQ Option Shuffling : Yes
Correct Marks : 1 Wrong Marks : 0.25

Select the antonym of the given word.

Conceal

Options :

1. ✖ Shrink
2. ✔ Unwrap
3. ✖ Absorb
4. ✖ Occupy

Question Number : 144 Question Id : 54592724788 Question Type : MCQ Option Shuffling : Yes
Correct Marks : 1 Wrong Marks : 0.25

Select the synonym of the given word.

Intrepid

Options :

1. ✖ Aesthetic
2. ✖ Rotten
3. ✔ Fearless
4. ✖ Detached

Question Number : 144 Question Id : 54592724788 Question Type : MCQ Option Shuffling : Yes
Correct Marks : 1 Wrong Marks : 0.25

Select the synonym of the given word.

Intrepid

Options :

1. ✖ Aesthetic

2. ✖ Rotten
3. ✔ Fearless
4. ✖ Detached

Question Number : 145 Question Id : 54592724789 Question Type : MCQ Option Shuffling : Yes
Correct Marks : 1 Wrong Marks : 0.25

Select the antonym of the given word.

Outrageous

Options :

1. ✔ Pleasing
2. ✖ Shocking
3. ✖ Peculiar
4. ✖ Insane

Question Number : 145 Question Id : 54592724789 Question Type : MCQ Option Shuffling : Yes
Correct Marks : 1 Wrong Marks : 0.25

Select the antonym of the given word.

Outrageous

Options :

1. ✔ Pleasing
2. ✖ Shocking
3. ✖ Peculiar
4. ✖ Insane

Question Number : 146 Question Id : 54592724790 Question Type : MCQ Option Shuffling : Yes
Correct Marks : 1 Wrong Marks : 0.25

Select the synonym of the given word.

Wrathful

Options :

1. ✘ Imperfect
2. ✔ Enraged
3. ✘ Originate
4. ✘ Suitable

Question Number : 146 Question Id : 54592724790 Question Type : MCQ Option Shuffling : Yes
Correct Marks : 1 Wrong Marks : 0.25

Select the synonym of the given word.

Wrathful

Options :

1. ✘ Imperfect
2. ✔ Enraged
3. ✘ Originate
4. ✘ Suitable

Question Number : 147 Question Id : 54592724791 Question Type : MCQ Option Shuffling : Yes
Correct Marks : 1 Wrong Marks : 0.25

Select the wrongly spelt word.

Options :

1. ✔ Definitely

2. ✖ Influential

3. ✖ Grateful

4. ✖ Noticeable

Question Number : 147 Question Id : 54592724791 Question Type : MCQ Option Shuffling : Yes
Correct Marks : 1 Wrong Marks : 0.25

Select the wrongly spelt word.

Options :

1. ✔ Definitely

2. ✖ Influential

3. ✖ Grateful

4. ✖ Noticeable

Question Number : 148 Question Id : 54592724792 Question Type : MCQ Option Shuffling : Yes
Correct Marks : 1 Wrong Marks : 0.25

Select the wrongly spelt word.

Note: For this question, discrepancy is found in question/answer. So, this question is ignored for all candidates.

Options :

1. Compatible

2. Maintenance

3. Calendar

4. Referred

Question Number : 148 Question Id : 54592724792 Question Type : MCQ Option Shuffling : Yes
Correct Marks : 1 Wrong Marks : 0.25

Select the wrongly spelt word.

Note: For this question, discrepancy is found in question/answer. So, this question is ignored for all candidates.

Options :

1. Compatible
2. Maintenance
3. Calendar
4. Referred

Question Number : 149 Question Id : 54592724793 Question Type : MCQ Option Shuffling : Yes
Correct Marks : 1 Wrong Marks : 0.25

Select the wrongly spelt word.

Options :

1. ✖ Righteous
2. ✖ Versatile
3. ✔ Prepration
4. ✖ Privilege

Question Number : 149 Question Id : 54592724793 Question Type : MCQ Option Shuffling : Yes
Correct Marks : 1 Wrong Marks : 0.25

Select the wrongly spelt word.

Options :

1. ✖ Righteous

2. ✖ Versatile

3. ✔ Prepration

4. ✖ Privilege

Question Number : 150 Question Id : 54592724794 Question Type : MCQ Option Shuffling : Yes
Correct Marks : 1 Wrong Marks : 0.25

Select the meaning of the given idiom.

A hot potato

Options :

1. ✔ A controversial issue

2. ✖ Very popular

3. ✖ Lacking seriousness

4. ✖ Careless

Question Number : 150 Question Id : 54592724794 Question Type : MCQ Option Shuffling : Yes
Correct Marks : 1 Wrong Marks : 0.25

Select the meaning of the given idiom.

A hot potato

Options :

1. ✔ A controversial issue

2. ✖ Very popular

3. ✖ Lacking seriousness

4. ✖ Careless

Question Number : 151 Question Id : 54592724795 Question Type : MCQ Option Shuffling : Yes
Correct Marks : 1 Wrong Marks : 0.25

Select the meaning of the given idiom.

A sea change

Options :

1. ✖ Having no impact
2. ✔ Complete transformation
3. ✖ A minute change
4. ✖ Blue in appearance

Question Number : 151 Question Id : 54592724795 Question Type : MCQ Option Shuffling : Yes
Correct Marks : 1 Wrong Marks : 0.25

Select the meaning of the given idiom.

A sea change

Options :

1. ✖ Having no impact
2. ✔ Complete transformation
3. ✖ A minute change
4. ✖ Blue in appearance

Question Number : 152 Question Id : 54592724796 Question Type : MCQ Option Shuffling : Yes
Correct Marks : 1 Wrong Marks : 0.25

Select the meaning of the given idiom.

Across the board

Options :

1. ✖ Different from others
2. ✖ On the other side
3. ✔ Impacting every part
4. ✖ Lacking originality

Question Number : 152 Question Id : 54592724796 Question Type : MCQ Option Shuffling : Yes
Correct Marks : 1 Wrong Marks : 0.25

Select the meaning of the given idiom.

Across the board

Options :

1. ✖ Different from others
2. ✖ On the other side
3. ✔ Impacting every part
4. ✖ Lacking originality

Question Number : 153 Question Id : 54592724797 Question Type : MCQ Option Shuffling : Yes
Correct Marks : 1 Wrong Marks : 0.25

Select the word which means the same as the group of words given.

A collection of historical documents or records

Options :

1. ✓ Archive
2. ✗ Black box
3. ✗ Canon
4. ✗ Fauna

Question Number : 153 Question Id : 54592724797 Question Type : MCQ Option Shuffling : Yes
Correct Marks : 1 Wrong Marks : 0.25

Select the word which means the same as the group of words given.

A collection of historical documents or records

Options :

1. ✓ Archive
2. ✗ Black box
3. ✗ Canon
4. ✗ Fauna

Question Number : 154 Question Id : 54592724798 Question Type : MCQ Option Shuffling : Yes
Correct Marks : 1 Wrong Marks : 0.25

Select the word which means the same as the group of words given.

An animal that feeds on other animals.

Options :

1. ✗ Herbivore
2. ✓ Carnivore

3. ✖ Omnivore

4. ✖ Mammal

Question Number : 154 Question Id : 54592724798 Question Type : MCQ Option Shuffling : Yes

Correct Marks : 1 Wrong Marks : 0.25

Select the word which means the same as the group of words given.

An animal that feeds on other animals.

Options :

1. ✖ Herbivore

2. ✔ Carnivore

3. ✖ Omnivore

4. ✖ Mammal

Question Number : 155 Question Id : 54592724799 Question Type : MCQ Option Shuffling : Yes

Correct Marks : 1 Wrong Marks : 0.25

Select the word which means the same as the group of words given.

Spoken or done without preparation.

Options :

1. ✖ Wizard

2. ✖ Incognito

3. ✔ Extempore

4. ✖ Interjection

Question Number : 155 Question Id : 54592724799 Question Type : MCQ Option Shuffling : Yes

Correct Marks : 1 Wrong Marks : 0.25

Select the word which means the same as the group of words given.

Spoken or done without preparation.

Options :

1. ✖ Wizard
2. ✖ Incognito
3. ✔ Extempore
4. ✖ Interjection

Sub-Section Number:	2
Sub-Section Id:	5459271473
Question Shuffling Allowed :	Yes

Question Id : 54592724800 Question Type : COMPREHENSION Sub Question Shuffling Allowed : Yes Group Comprehension Questions : No

Question Numbers : (156 to 160)

Question Label : Comprehension

Answer the questions based on the following passage.

Although technology is finally being integrated into education, its use for teaching and learning still remains a challenge. Despite the fact that many schools today are privileged to have ready access to technology, trained teachers, and a favourable policy environment, the use of technology in the classroom is still low.

With that said, the potential of technology to enhance learning cannot be overemphasized. The use of technology is something that started a long time ago for students with special needs. For example, brail machines have been utilized for the visually impaired. In addition, special needs programs that help children with autism use technology to enhance learning. By integrating technology into education, educators aim to engender pedagogical change and address fundamental issues that affect learners with special needs.

Today, technologies used to improve and facilitate learning can be found everywhere. Leaving other contextual factors to the side – such as unequal access to technological innovations and connected technologies across schools and districts – we can only say that we have embraced technology in education when it is used for both teaching and learning. With the incorporation of technology into schools, the main purpose is to change how teachers and students gather, access, analyse, present and transmit information.

Overall, technology is central to many sectors of society and its integration into the education process has great promise for student learning. With technology, one can expect increased efficiency and effectiveness on both the part of teachers and students. Technology can also prompt pedagogical change and address issues that affect learning, teaching and social organization. Technology can therefore be seen as both a tool and a catalyst for change. Students should embrace technology for them to benefit and teachers should be open to introducing technology into the classroom to improve and innovate their teaching practice.

Sub questions

Question Number : 156 Question Id : 54592724801 Question Type : MCQ Option Shuffling : Yes

Correct Marks : 1 Wrong Marks : 0.25

The main concern of the author in the given passage is:

Options :

1. ✓ Role of technology in the education process.
2. ✘ Teaching and learning process
3. ✘ Fundamental issues affecting education.
4. ✘ Technological innovations

Question Number : 157 Question Id : 54592724802 Question Type : MCQ Option Shuffling : Yes

Correct Marks : 1 Wrong Marks : 0.25

Why does the author state that the role of technology to enhance learning can't be overemphasized?

Options :

1. ✘ Technological use only has its merits.
2. ✓ The use of technology in the classroom is still low.
3. ✘ The potential of technology in the education is not very promising.
4. ✘ The use of technology in teaching and learning is a challenge.

Question Number : 158 Question Id : 54592724803 Question Type : MCQ Option Shuffling : Yes

Correct Marks : 1 Wrong Marks : 0.25

The author quotes the example of 'brail machines' to highlight the following point:

Options :

1. ✘ The potential of technology.
2. ✘ The need to address immediate issues in technology.

3. ✓ The use of technology was basically meant for students with special needs.

4. ✖ Unequal access to technological use.

Question Number : 159 Question Id : 54592724804 Question Type : MCQ Option Shuffling : Yes

Correct Marks : 1 Wrong Marks : 0.25

What is the main purpose behind incorporation of technology into schools?

Options :

1. ✖ To improve access to technology

2. ✖ To create a favorable policy for education

3. ✖ To address fundamental issues related to technology.

4. ✓ To change the way teachers and students gather, access, analyse, present and transmit information.

Question Number : 160 Question Id : 54592724805 Question Type : MCQ Option Shuffling : Yes

Correct Marks : 1 Wrong Marks : 0.25

How is technology seen both as a tool and a catalyst for change?

Options :

1. ✓ Use of technology in education leads to increased efficiency and also affects a pedagogical change.

2. ✖ Technologies use to improve and facilitate learning

3. ✖ Improved access to education

4. ✖ It helps in innovating teaching practices.

Question Id : 54592724800 Question Type : COMPREHENSION Sub Question Shuffling Allowed : Yes Group Comprehension Questions : No

Question Numbers : (156 to 160)

Question Label : Comprehension

Answer the questions based on the following passage.

Although technology is finally being integrated into education, its use for teaching and learning still remains a challenge. Despite the fact that many schools today are privileged to have ready access to technology, trained teachers, and a favourable policy environment, the use of technology in the classroom is still low.

With that said, the potential of technology to enhance learning cannot be overemphasized. The use of technology is something that started a long time ago for students with special needs. For example, brail machines have been utilized for the visually impaired. In addition, special needs programs that help children with autism use technology to enhance learning. By integrating technology into education, educators aim to engender pedagogical change and address fundamental issues that affect learners with special needs.

Today, technologies used to improve and facilitate learning can be found everywhere. Leaving other contextual factors to the side - such as unequal access to technological innovations and connected technologies across schools and districts - we can only say that we have embraced technology in education when it is used for both teaching and learning. With the incorporation of technology into schools, the main purpose is to change how teachers and students gather, access, analyse, present and transmit information.

Overall, technology is central to many sectors of society and its integration into the education process has great promise for student learning. With technology, one can expect increased efficiency and effectiveness on both the part of teachers and students. Technology can also prompt pedagogical change and address issues that affect learning, teaching and social organization. Technology can therefore be seen as both a tool and a catalyst for change. Students should embrace technology for them to benefit and teachers should be open to introducing technology into the classroom to improve and innovate their teaching practice.

Sub questions

Question Number : 156 Question Id : 54592724801 Question Type : MCQ Option Shuffling : Yes
Correct Marks : 1 Wrong Marks : 0.25

The main concern of the author in the given passage is:

Options :

1. ✓ Role of technology in the education process.
2. ✗ Teaching and learning process
3. ✗ Fundamental issues affecting education.
4. ✗ Technological innovations

Question Number : 157 Question Id : 54592724802 Question Type : MCQ Option Shuffling : Yes
Correct Marks : 1 Wrong Marks : 0.25

Why does the author state that the role of technology to enhance learning can't be overemphasized?

Options :

1. ✗ Technological use only has its merits.
2. ✓ The use of technology in the classroom is still low.
3. ✗ The potential of technology in the education is not very promising.
4. ✗ The use of technology in teaching and learning is a challenge.

Question Number : 158 Question Id : 54592724803 Question Type : MCQ Option Shuffling : Yes
Correct Marks : 1 Wrong Marks : 0.25

The author quotes the example of 'brail machines' to highlight the following point:

Options :

1. ✖ The potential of technology.
2. ✖ The need to address immediate issues in technology.
3. ✔ The use of technology was basically meant for students with special needs.
4. ✖ Unequal access to technological use.

Question Number : 159 Question Id : 54592724804 Question Type : MCQ Option Shuffling : Yes
Correct Marks : 1 Wrong Marks : 0.25

What is the main purpose behind incorporation of technology into schools?

Options :

1. ✖ To improve access to technology
2. ✖ To create a favorable policy for education
3. ✖ To address fundamental issues related to technology.
4. ✔ To change the way teachers and students gather, access, analyse, present and transmit information.

Question Number : 160 Question Id : 54592724805 Question Type : MCQ Option Shuffling : Yes
Correct Marks : 1 Wrong Marks : 0.25

How is technology seen both as a tool and a catalyst for change?

Options :

1. ✔ Use of technology in education leads to increased efficiency and also affects a pedagogical change.

2. * Technologies use to improve and facilitate learning
3. * Improved access to education
4. * It helps in innovating teaching practices.

General Hindi1

Group Number :	9
Group Id :	5459271229
Group Maximum Duration :	0
Group Minimum Duration :	0
Show Attended Group? :	No
Edit Attended Group? :	No
Break time:	0
Group Marks:	20
Is this Group for Examiner?:	No
Revisit allowed for group Instructions? :	Yes
Maximum Instruction Time:	0
Minimum Instruction Time:	0

General Hindi1

Section Id :	5459271229
Section Number :	1
Section type :	Online
Mandatory or Optional:	Mandatory
Number of Questions:	20
Number of Questions to be attempted:	20
Section Marks:	20

Sub-Section Number:	1
Sub-Section Id:	5459271474
Question Shuffling Allowed :	Yes

Question Number : 161 Question Id : 54592724806 Question Type : MCQ Option Shuffling : Yes
Correct Marks : 1 Wrong Marks : 0.25

निम्न शब्दों में से आलू प्रत्यय से बने शब्द का चयन करें।

Options :

1. * ससुराल
2. * कमाऊ
3. * पनीता

4. ✓ झगड़ालू

Question Number : 161 Question Id : 54592724806 Question Type : MCQ Option Shuffling : Yes
Correct Marks : 1 Wrong Marks : 0.25

निम्न शब्दों में से आलू प्रत्यय से बने शब्द का चयन करें।

Options :

1. ✘ ससुराल
2. ✘ कमाऊ
3. ✘ पनीता
4. ✓ झगड़ालू

Question Number : 162 Question Id : 54592724807 Question Type : MCQ Option Shuffling : Yes
Correct Marks : 1 Wrong Marks : 0.25

निम्नलिखित में से कौन-सा शब्द व्यंजन संधि का उदाहरण है?

Options :

1. ✘ आनंद
2. ✘ महर्षि
3. ✓ बाग्वत
4. ✘ न्यून

Question Number : 162 Question Id : 54592724807 Question Type : MCQ Option Shuffling : Yes
Correct Marks : 1 Wrong Marks : 0.25

निम्नलिखित में से कौन-सा शब्द व्यंजन संधि का उदाहरण है?

Options :

1. ✘ आनंद
2. ✘ महर्षि
3. ✓ बाग्वत
4. ✘ न्यून

Question Number : 163 Question Id : 54592724808 Question Type : MCQ Option Shuffling : Yes
Correct Marks : 1 Wrong Marks : 0.25

जिस समास में पहला शब्द अव्यय होने के साथ प्रधान होता है वहाँ कौन-सा समास होता है?

Options :

1. ✓ अव्ययीभाव समास
2. ✘ तत्पुरुष समास
3. ✘ द्वन्द्व समास
4. ✘ बहुब्रीहि समास

Question Number : 163 Question Id : 54592724808 Question Type : MCQ Option Shuffling : Yes

Correct Marks : 1 Wrong Marks : 0.25

जिस समास में पहला शब्द अव्यय होने के साथ प्रधान होता है वहाँ कौन-सा समास होता है?

Options :

1. ✓ अव्ययीभाव समास
2. ✘ तत्पुरुष समास
3. ✘ द्वन्द्व समास
4. ✘ बहुब्रीहि समास

Question Number : 164 Question Id : 54592724809 Question Type : MCQ Option Shuffling : Yes

Correct Marks : 1 Wrong Marks : 0.25

निम्नलिखित शब्दों में से तद्भव शब्द का चयन कीजिए।

Options :

1. ✘ रात्रि
2. ✓ हाथ
3. ✘ श्वास
4. ✘ पृष्ठ

Question Number : 164 Question Id : 54592724809 Question Type : MCQ Option Shuffling : Yes

Correct Marks : 1 Wrong Marks : 0.25

निम्नलिखित शब्दों में से तद्भव शब्द का चयन कीजिए।

Options :

1. ✖ रात्रि
2. ✔ हाथ
3. ✖ श्वास
4. ✖ पृष्ठ

Question Number : 165 Question Id : 54592724810 Question Type : MCQ Option Shuffling : Yes
Correct Marks : 1 Wrong Marks : 0.25

निम्नलिखित में से कौन-सा शब्द पुरुषवाचक सर्वनाम का उत्तम पुरुष का शब्द है?

Options :

1. ✔ मैं
2. ✖ तू
3. ✖ तुम
4. ✖ वह

Question Number : 165 Question Id : 54592724810 Question Type : MCQ Option Shuffling : Yes
Correct Marks : 1 Wrong Marks : 0.25

निम्नलिखित में से कौन-सा शब्द पुरुषवाचक सर्वनाम का उत्तम पुरुष का शब्द है?

Options :

1. ✔ मैं
2. ✖ तू
3. ✖ तुम
4. ✖ वह

Question Number : 166 Question Id : 54592724811 Question Type : MCQ Option Shuffling : Yes
Correct Marks : 1 Wrong Marks : 0.25

निम्नलिखित में से शुद्ध शब्द का चयन करें।

Options :

1. ✖ सुलोचनी
2. ✖ सुलोचिनी

3. ✓ सुलोचना

4. ✘ सुलोचीनि

Question Number : 166 Question Id : 54592724811 Question Type : MCQ Option Shuffling : Yes
Correct Marks : 1 Wrong Marks : 0.25

निम्नलिखित में से शुद्ध शब्द का चयन करें।

Options :

1. ✘ सुलोचनी

2. ✘ सुलोचिनी

3. ✓ सुलोचना

4. ✘ सुलोचीनि

Question Number : 167 Question Id : 54592724812 Question Type : MCQ Option Shuffling : Yes
Correct Marks : 1 Wrong Marks : 0.25

निम्नलिखित में से कौन-सा शब्द वायु का पर्यायवाची नहीं है?

Options :

1. ✘ अनिल

2. ✘ समीर

3. ✘ हवा

4. ✓ अनल

Question Number : 167 Question Id : 54592724812 Question Type : MCQ Option Shuffling : Yes
Correct Marks : 1 Wrong Marks : 0.25

निम्नलिखित में से कौन-सा शब्द वायु का पर्यायवाची नहीं है?

Options :

1. ✘ अनिल

2. ✘ समीर

3. ✘ हवा

4. ✓ अनल

Question Number : 168 Question Id : 54592724813 Question Type : MCQ Option Shuffling : Yes
Correct Marks : 1 Wrong Marks : 0.25

निम्नलिखित में से कौन-सा शब्द स्वार्थ का विलोम शब्द है?

Options :

1. * विषम
2. * असमर्थ
3. * अहंकार
4. ✓ परमार्थ

Question Number : 168 Question Id : 54592724813 Question Type : MCQ Option Shuffling : Yes

Correct Marks : 1 Wrong Marks : 0.25

निम्नलिखित में से कौन-सा शब्द स्वार्थ का विलोम शब्द है?

Options :

1. * विषम
2. * असमर्थ
3. * अहंकार
4. ✓ परमार्थ

Question Number : 169 Question Id : 54592724814 Question Type : MCQ Option Shuffling : Yes

Correct Marks : 1 Wrong Marks : 0.25

निम्नलिखित में से कट शब्द का अनेकार्थी शब्द का चयन कीजिए।

Options :

1. ✓ हाथी की सूंड
2. * कान
3. * सुन्दर
4. * मशीन

Question Number : 169 Question Id : 54592724814 Question Type : MCQ Option Shuffling : Yes

Correct Marks : 1 Wrong Marks : 0.25

निम्नलिखित में से कट शब्द का अनेकार्थी शब्द का चयन कीजिए।

Options :

1. ✓ हाथी की सूंड
2. * कान

3. * सुन्दर

4. * मशीन

Question Number : 170 Question Id : 54592724815 Question Type : MCQ Option Shuffling : Yes

Correct Marks : 1 Wrong Marks : 0.25

निर्देश वाक्यांश के लिए दिए गए विकल्पों में से उपयुक्त शब्द चुनिए।

किसी आदरणीय व्यक्ति द्वारा दिया गया कार्य।

Options :

1. * आदेश

2. * अनुमति

3. * निर्देश

4. ✓ आज्ञा

Question Number : 170 Question Id : 54592724815 Question Type : MCQ Option Shuffling : Yes

Correct Marks : 1 Wrong Marks : 0.25

निर्देश वाक्यांश के लिए दिए गए विकल्पों में से उपयुक्त शब्द चुनिए।

किसी आदरणीय व्यक्ति द्वारा दिया गया कार्य।

Options :

1. * आदेश

2. * अनुमति

3. * निर्देश

4. ✓ आज्ञा

Question Number : 171 Question Id : 54592724816 Question Type : MCQ Option Shuffling : Yes

Correct Marks : 1 Wrong Marks : 0.25

निम्नलिखित में से कौन-सा शब्द युग्म विपरीत गुण वाला है?

Options :

1. * भूख-मोगुन

2. * दंत-दाँत

3. * ईष्या-द्वेष

4. ✓ आग-पानी

Question Number : 171 Question Id : 54592724816 Question Type : MCQ Option Shuffling : Yes
Correct Marks : 1 Wrong Marks : 0.25

निम्नलिखित में से कौन-सा शब्द युग्म विपरीत गुण वाला है?

Options :

1. * भूख-मोगुन

2. * दंत-दाँत

3. * ईष्या-द्वेष

4. ✓ आग-पानी

Question Number : 172 Question Id : 54592724817 Question Type : MCQ Option Shuffling : Yes
Correct Marks : 1 Wrong Marks : 0.25

आशातीत का शाब्दिक अर्थ है।

Options :

1. ✓ जो आशा से बढ़कर हो

2. * जो आशा के अनुरूप हो

3. * जो को आशा का माने

4. * जो आशा से अलग हो

Question Number : 172 Question Id : 54592724817 Question Type : MCQ Option Shuffling : Yes
Correct Marks : 1 Wrong Marks : 0.25

आशातीत का शाब्दिक अर्थ है।

Options :

1. ✓ जो आशा से बढ़कर हो

2. * जो आशा के अनुरूप हो

3. * जो को आशा का माने

4. * जो आशा से अलग हो

Question Number : 173 Question Id : 54592724818 Question Type : MCQ Option Shuffling : Yes
Correct Marks : 1 Wrong Marks : 0.25

वे शब्द जो अक्षर समूह तो हैं किंतु जिन्में भाव स्पष्ट नहीं होते उन्हें _____ शब्द कहते हैं।

Options :

1. * निर्माण आधारित शब्द
2. * रूपान्तरण आधारित
3. * रूपान्तरण शब्द
4. ✓ निरर्थक शब्द

Question Number : 173 Question Id : 54592724818 Question Type : MCQ Option Shuffling : Yes

Correct Marks : 1 Wrong Marks : 0.25

वे शब्द जो अक्षर समूह तो हैं किंतु जिन्में भाव स्पष्ट नहीं होते उन्हें _____ शब्द कहते हैं।

Options :

1. * निर्माण आधारित शब्द
2. * रूपान्तरण आधारित
3. * रूपान्तरण शब्द
4. ✓ निरर्थक शब्द

Question Number : 174 Question Id : 54592724819 Question Type : MCQ Option Shuffling : Yes

Correct Marks : 1 Wrong Marks : 0.25

रस्सी निम्न में से किस बाल्टो शब्द का उदाहरण है?

Options :

1. * भिन्न उच्चारण वाले समानार्थी युग्म
2. * आवश्यक पूर्ति वाले युग्म शब्द
3. * पुनरावृत्त युग्म शब्द
4. ✓ विपरीत गुण का बोध कराने वाले युग्म शब्द

Question Number : 174 Question Id : 54592724819 Question Type : MCQ Option Shuffling : Yes

Correct Marks : 1 Wrong Marks : 0.25

रस्सी निम्न में से किस बाल्टो शब्द का उदाहरण है?

Options :

1. * भिन्न उच्चारण वाले समानार्थी युग्म
2. * आवश्यक पूर्ति वाले युग्म शब्द
3. * पुनरावृत्त युग्म शब्द
4. ✓ विपरीत गुण का बोध कराने वाले युग्म शब्द

Question Number : 175 Question Id : 54592724820 Question Type : MCQ Option Shuffling : Yes
Correct Marks : 1 Wrong Marks : 0.25

"उपकार को मानने वाला" के लिए उपयुक्त शब्द का चयन करें।

Options :

1. * कृतघ्न
2. * उपकारी
3. * अभिकारी
4. ✓ कृतज्ञ

Question Number : 175 Question Id : 54592724820 Question Type : MCQ Option Shuffling : Yes
Correct Marks : 1 Wrong Marks : 0.25

"उपकार को मानने वाला" के लिए उपयुक्त शब्द का चयन करें।

Options :

1. * कृतघ्न
2. * उपकारी
3. * अभिकारी
4. ✓ कृतज्ञ

Question Number : 176 Question Id : 54592724821 Question Type : MCQ Option Shuffling : Yes
Correct Marks : 1 Wrong Marks : 0.25

निम्नलिखित में कौन-सा शब्द स्त्रीलिंग है?

Options :

1. * दही
2. * पानी
3. * पपीता

4. ✓ एकादशी

Question Number : 176 Question Id : 54592724821 Question Type : MCQ Option Shuffling : Yes
Correct Marks : 1 Wrong Marks : 0.25

निम्नलिखित में कौन-सा शब्द स्त्रीलिंग है?

Options :

1. ✘ दही
2. ✘ पानी
3. ✘ पपीता
4. ✓ एकादशी

Question Number : 177 Question Id : 54592724822 Question Type : MCQ Option Shuffling : Yes
Correct Marks : 1 Wrong Marks : 0.25

जिन संज्ञाओ के अंत में त अथवा य आता है वे निम्न में से क्या शब्द होते हैं?

Options :

1. ✓ स्त्रीलिंग
2. ✘ पुलिंग
3. ✘ लिंग वचन
4. ✘ मात्रा

Question Number : 177 Question Id : 54592724822 Question Type : MCQ Option Shuffling : Yes
Correct Marks : 1 Wrong Marks : 0.25

जिन संज्ञाओ के अंत में त अथवा य आता है वे निम्न में से क्या शब्द होते हैं?

Options :

1. ✓ स्त्रीलिंग
2. ✘ पुलिंग
3. ✘ लिंग वचन
4. ✘ मात्रा

Question Number : 178 Question Id : 54592724823 Question Type : MCQ Option Shuffling : Yes
Correct Marks : 1 Wrong Marks : 0.25

मेज पर पुस्तक है, मैं कौन सा कारक चिन्ह और विभक्ति है?

Options :

1. ✓ अधिकरण (सप्तम)
2. * सम्बन्ध (षष्ठी)
3. * कर्ता (प्रथम)
4. * सम्प्रदान चतुर्थी

Question Number : 178 Question Id : 54592724823 Question Type : MCQ Option Shuffling : Yes

Correct Marks : 1 Wrong Marks : 0.25

मेज पर पुस्तक है, मैं कौन सा कारक चिन्ह और विभक्ति है?

Options :

1. ✓ अधिकरण (सप्तम)
2. * सम्बन्ध (षष्ठी)
3. * कर्ता (प्रथम)
4. * सम्प्रदान चतुर्थी

Question Number : 179 Question Id : 54592724824 Question Type : MCQ Option Shuffling : Yes

Correct Marks : 1 Wrong Marks : 0.25

निम्नलिखित वाक्यों में कौन सा भविष्यकाल का उदाहरण है?

Options :

1. ✓ राम पढ़ेगा
2. * राम पुस्तक पढ़ा हो
3. * राम पुस्तक पढ़ रहा है
4. * वे काम करते हैं

Question Number : 179 Question Id : 54592724824 Question Type : MCQ Option Shuffling : Yes

Correct Marks : 1 Wrong Marks : 0.25

निम्नलिखित वाक्यों में कौन सा भविष्यकाल का उदाहरण है?

Options :

1. ✓ राम पढ़ेगा
2. * राम पुस्तक पढ़ा हो

3. * राम पुस्तक पढ़ रहा है

4. * वे काम करते हैं

Question Number : 180 Question Id : 54592724825 Question Type : MCQ Option Shuffling : Yes

Correct Marks : 1 Wrong Marks : 0.25

निम्नलिखित वाक्य के लिए दिए विकल्पों में से उसके प्रकार को चिन्हित कीजिए।

राम ने भोजन कर लिया; क्योंकि संध्या हो गई थी।

Options :

1. * सरल वाक्य

2. ✓ मिश्र वाक्य

3. * संयुक्त वाक्य

4. * उपवाक्य

Question Number : 180 Question Id : 54592724825 Question Type : MCQ Option Shuffling : Yes

Correct Marks : 1 Wrong Marks : 0.25

निम्नलिखित वाक्य के लिए दिए विकल्पों में से उसके प्रकार को चिन्हित कीजिए।

राम ने भोजन कर लिया; क्योंकि संध्या हो गई थी।

Options :

1. * सरल वाक्य

2. ✓ मिश्र वाक्य

3. * संयुक्त वाक्य

4. * उपवाक्य

General Hindi2

Group Number :

10

Group Id :

5459271230

Group Maximum Duration :

0

Group Minimum Duration :	120
Show Attended Group? :	No
Edit Attended Group? :	No
Break time:	0
Group Marks:	20
Is this Group for Examiner?:	No
Revisit allowed for group Instructions? :	Yes
Maximum Instruction Time:	0
Minimum Instruction Time:	0

General Hindi2

Section Id :	5459271230
Section Number :	1
Section type :	Online
Mandatory or Optional:	Mandatory
Number of Questions:	16
Number of Questions to be attempted:	16
Section Marks:	20

Sub-Section Number:	1
Sub-Section Id:	5459271475
Question Shuffling Allowed :	Yes

Question Number : 181 Question Id : 54592724826 Question Type : MCQ Option Shuffling : Yes
Correct Marks : 1 Wrong Marks : 0.25

निम्नलिखित वाक्य के लिए दिए गए विकल्पों में से उसके प्रकार को चिन्हित कीजिए ।

आजकल वर्षा से यातायात में कठिनाई तो है ही लेकिन बाढ़ ने तो उसे ठप्प ही कर दिया है।

Options :

1. * सरल वाक्य
2. ✓ सयुक्त वाक्य
3. * मिश्रित वाक्य
4. * लघु वाक्य

Question Number : 181 Question Id : 54592724826 Question Type : MCQ Option Shuffling : Yes
Correct Marks : 1 Wrong Marks : 0.25

निम्नलिखित वाक्य के लिए दिए गए विकल्पों में से उसके प्रकार को चिन्हित कीजिए।

आजकल वर्षा से यातायात में कठिनाई तो है ही लेकिन बाढ़ ने तो उसे ठप्प ही कर दिया है।

Options :

1. * सरल वाक्य
2. ✓ सयुंक्त वाक्य
3. * मिश्रित वाक्य
4. * लघु वाक्य

Question Number : 182 Question Id : 54592724827 Question Type : MCQ Option Shuffling : Yes
Correct Marks : 1 Wrong Marks : 0.25

निम्नलिखित में कौन-सा शुद्ध वाक्य है?

Options :

1. * एवरेस्ट शिखर सबसे उच्चतम चोटी है
2. * एवरेस्ट शिखर है
3. * एवरेस्ट शिखर की ऊँची चोटी है
4. ✓ एवरेस्ट शिखर उच्चतम चोटी है।

Question Number : 182 Question Id : 54592724827 Question Type : MCQ Option Shuffling : Yes
Correct Marks : 1 Wrong Marks : 0.25

निम्नलिखित में कौन-सा शुद्ध वाक्य है?

Options :

1. * एवरेस्ट शिखर सबसे उच्चतम चोटी है
2. * एवरेस्ट शिखर है
3. * एवरेस्ट शिखर की ऊँची चोटी है
4. ✓ एवरेस्ट शिखर उच्चतम चोटी है।

Question Number : 183 Question Id : 54592724828 Question Type : MCQ Option Shuffling : Yes
Correct Marks : 1 Wrong Marks : 0.25

निम्नलिखित में से गुडि़या का बहुवचन क्या है?

Options :

1. * गुडि़्यों
2. * गुड़ीयों
3. ✓ गुडि़याँ
4. * गुडि़यें

Question Number : 183 Question Id : 54592724828 Question Type : MCQ Option Shuffling : Yes
Correct Marks : 1 Wrong Marks : 0.25

निम्नलिखित में से गुडि़या का बहुवचन क्या है?

Options :

1. * गुडि़्यों
2. * गुड़ीयों
3. ✓ गुडि़याँ
4. * गुडि़यें

Question Number : 184 Question Id : 54592724829 Question Type : MCQ Option Shuffling : Yes
Correct Marks : 1 Wrong Marks : 0.25

निम्नलिखित में शुद्ध वाक्य का चयन कीजिए।

Options :

1. * तुम जो कल नहीं आये थे परीक्षा नहीं दी
2. * कल न आने से तुमने परीक्षा नहीं दी
3. * परीक्षा नहीं दी क्योंकि कल तुम नहीं आये
4. ✓ तुमने, कल नहीं आने के कारण परीक्षा नहीं दी।

Question Number : 184 Question Id : 54592724829 Question Type : MCQ Option Shuffling : Yes
Correct Marks : 1 Wrong Marks : 0.25

निम्नलिखित में शुद्ध वाक्य का चयन कीजिए।

Options :

1. * तुम जो कल नहीं आये थे परीक्षा नहीं दी

2. * कल न आने से तुमने परीक्षा नहीं दी
3. * परीक्षा नहीं दी क्योंकि कल तुम नहीं आये
4. ✓ तुमने, कल नहीं आने के कारण परीक्षा नहीं दी।

Question Number : 185 Question Id : 54592724830 Question Type : MCQ Option Shuffling : Yes
Correct Marks : 1 Wrong Marks : 0.25

निम्न शब्दों में कौन-सा काल वाचक क्रिया विशेषण है?

Options :

1. ✓ निरंतर
2. * बाहर
3. * भीतर
4. * ऊपर

Question Number : 185 Question Id : 54592724830 Question Type : MCQ Option Shuffling : Yes
Correct Marks : 1 Wrong Marks : 0.25

निम्न शब्दों में कौन-सा काल वाचक क्रिया विशेषण है?

Options :

1. ✓ निरंतर
2. * बाहर
3. * भीतर
4. * ऊपर

Question Number : 186 Question Id : 54592724831 Question Type : MCQ Option Shuffling : Yes
Correct Marks : 1 Wrong Marks : 0.25

निम्नलिखित में कौन-सा मध्यम पुरुष का उदाहरण है?

Options :

1. * मैं खाना खा रहा हूँ
2. ✓ तुम अपना काम करो
3. * यह मेरी पुस्तक है
4. * वह जा रहा है

Question Number : 186 Question Id : 54592724831 Question Type : MCQ Option Shuffling : Yes

Correct Marks : 1 Wrong Marks : 0.25

निम्नलिखित में कौन-सा मध्यम पुरुष का उदाहरण है?

Options :

1. * मैं खाना खा रहा हूँ
2. ✓ तुम अपना काम करो
3. * यह मेरी पुस्तक है
4. * वह जा रहा है

Question Number : 187 Question Id : 54592724832 Question Type : MCQ Option Shuffling : Yes

Correct Marks : 1 Wrong Marks : 0.25

महिमावान पुलिग शब्द का स्त्रीलिग शब्द लिखिए।

Options :

1. * महिमामति
2. ✓ महिमावती
3. * महिमामती
4. * महिमावानी

Question Number : 187 Question Id : 54592724832 Question Type : MCQ Option Shuffling : Yes

Correct Marks : 1 Wrong Marks : 0.25

महिमावान पुलिग शब्द का स्त्रीलिग शब्द लिखिए।

Options :

1. * महिमामति
2. ✓ महिमावती
3. * महिमामती
4. * महिमावानी

Question Number : 188 Question Id : 54592724833 Question Type : MCQ Option Shuffling : Yes

Correct Marks : 1 Wrong Marks : 0.25

निम्न में से किन वाक्यों को छोड़कर शेष सभी निश्चयात्मक वाक्यों में पूर्णविराम का प्रयोग होता है?

Options :

1. ✓ प्रश्नवाचाक और विस्मयादिबोधक

2. ✘ सरल वाक्य

3. ✘ मिश्र वाक्य

4. ✘ संयुक्त वाक्य

Question Number : 188 Question Id : 54592724833 Question Type : MCQ Option Shuffling : Yes

Correct Marks : 1 Wrong Marks : 0.25

निम्न में से किन वाक्यों को छोड़कर शेष सभी निश्चयात्मक वाक्यों में पूर्णविराम का प्रयोग होता है?

Options :

1. ✓ प्रश्नवाचाक और विस्मयादिबोधक

2. ✘ सरल वाक्य

3. ✘ मिश्र वाक्य

4. ✘ संयुक्त वाक्य

Question Number : 189 Question Id : 54592724834 Question Type : MCQ Option Shuffling : Yes

Correct Marks : 1 Wrong Marks : 0.25

निम्न में से कौन-सा अर्द्ध विराम का चिन्ह है?

Options :

1. ✘ (,)

2. ✓ (;)

3. ✘ (|)

4. ✘ (-)

Question Number : 189 Question Id : 54592724834 Question Type : MCQ Option Shuffling : Yes

Correct Marks : 1 Wrong Marks : 0.25

निम्न में से कौन-सा अर्द्ध विराम का चिन्ह है?

Options :

1. ✘ (,)

2. ✓ (;)

3. * (I)

4. * (-)

Question Number : 190 Question Id : 54592724835 Question Type : MCQ Option Shuffling : Yes

Correct Marks : 1 Wrong Marks : 0.25

आज से सवा सौ वर्ष पूर्व हिंदी बर्तनी में निम्न में से कौन-सा एक ही विराम चिन्ह था?

Options :

1. ✓ पूर्ण विराम

2. * अल्पविराम

3. * प्रश्नवाचक चिन्ह

4. * अर्द्ध विराम

Question Number : 190 Question Id : 54592724835 Question Type : MCQ Option Shuffling : Yes

Correct Marks : 1 Wrong Marks : 0.25

आज से सवा सौ वर्ष पूर्व हिंदी बर्तनी में निम्न में से कौन-सा एक ही विराम चिन्ह था?

Options :

1. ✓ पूर्ण विराम

2. * अल्पविराम

3. * प्रश्नवाचक चिन्ह

4. * अर्द्ध विराम

Question Number : 191 Question Id : 54592724836 Question Type : MCQ Option Shuffling : Yes

Correct Marks : 1 Wrong Marks : 0.25

शरणागत-रक्षक में कौन-सा विराम चिन्ह का प्रयोग है?

Options :

1. * विस्मयादि बोधक

2. ✓ संयोजक विराम चिन्ह

3. * निर्देशक चिन्ह

4. * उद्धरण चिन्ह

Question Number : 191 Question Id : 54592724836 Question Type : MCQ Option Shuffling : Yes

Correct Marks : 1 Wrong Marks : 0.25

शरणागत-रक्षक में कौन-सा विराम चिन्ह का प्रयोग है?

Options :

1. * विस्मयादि बोधक
2. ✓ संयोजक विराम चिन्ह
3. * निर्देशक चिन्ह
4. * उद्धरण चिन्ह

Question Number : 192 Question Id : 54592724837 Question Type : MCQ Option Shuffling : Yes

Correct Marks : 1 Wrong Marks : 0.25

आड़े हाथों लेना मुहावरे का अर्थ क्या है?

Options :

1. ✓ खरी खोटी सुनाना
2. * क्रोधित होना
3. * कुछ भी कहना
4. * धैर्य खानों

Question Number : 192 Question Id : 54592724837 Question Type : MCQ Option Shuffling : Yes

Correct Marks : 1 Wrong Marks : 0.25

आड़े हाथों लेना मुहावरे का अर्थ क्या है?

Options :

1. ✓ खरी खोटी सुनाना
2. * क्रोधित होना
3. * कुछ भी कहना
4. * धैर्य खानों

Question Number : 193 Question Id : 54592724838 Question Type : MCQ Option Shuffling : Yes

Correct Marks : 1 Wrong Marks : 0.25

खाक छानना मुहावरे का अर्थ क्या है?

Options :

1. ✓ भटकना

2. * दौड़ना
3. * चुप्पी साधना
4. * समाप्त करना

Question Number : 193 Question Id : 54592724838 Question Type : MCQ Option Shuffling : Yes
Correct Marks : 1 Wrong Marks : 0.25

खाक छानना मुहावरे का अर्थ क्या है?

Options :

1. ✓ भटकना
2. * दौड़ना
3. * चुप्पी साधना
4. * समाप्त करना

Question Number : 194 Question Id : 54592724839 Question Type : MCQ Option Shuffling : Yes
Correct Marks : 1 Wrong Marks : 0.25

खोदा पहाड़ निकली चुहिया कहावत का अर्थ है।

Options :

1. * अथन परिश्रम करना
2. ✓ अधिक परिश्रम, अल्प लाभ
3. * थम जाना
4. * अधिक मेहनत करना

Question Number : 194 Question Id : 54592724839 Question Type : MCQ Option Shuffling : Yes
Correct Marks : 1 Wrong Marks : 0.25

खोदा पहाड़ निकली चुहिया कहावत का अर्थ है।

Options :

1. * अथन परिश्रम करना
2. ✓ अधिक परिश्रम, अल्प लाभ
3. * थम जाना
4. * अधिक मेहनत करना

Question Number : 195 Question Id : 54592724840 Question Type : MCQ Option Shuffling : Yes
Correct Marks : 1 Wrong Marks : 0.25

दूध का दूध पानी का पानी' कहावत का अर्थ बताइए।

Options :

1. * दोनों ओर से असफलता
2. ✓ पूर्ण न्याय
3. * सफल होना
4. * एकतरफा बात

Question Number : 195 Question Id : 54592724840 Question Type : MCQ Option Shuffling : Yes
Correct Marks : 1 Wrong Marks : 0.25

दूध का दूध पानी का पानी' कहावत का अर्थ बताइए।

Options :

1. * दोनों ओर से असफलता
2. ✓ पूर्ण न्याय
3. * सफल होना
4. * एकतरफा बात

Sub-Section Number:	2
Sub-Section Id:	5459271476
Question Shuffling Allowed :	Yes

Question Id : 54592724841 Question Type : COMPREHENSION Sub Question Shuffling Allowed : Yes Group Comprehension Questions : No

Question Numbers : (196 to 200)

Question Label : Comprehension

निम्नलिखित गद्यांश को पढ़कर दिए गए प्रश्न का उत्तर दें।

बेकारों की समस्या अंग्रेजी हुकुमत की देन है। हिन्दुस्तान का शोषण करने के लिए उन्होंने यहाँ के उद्योग धन्धों को नष्ट करना आरंभ किया। अंग्रेजी शिक्षा ने, जिसका उद्देश्य सरकारी क्लर्क या ऑफिस के बाबू तैयार करना या इस समस्या ओर जटिल बनाया। धीरे-धीरे देश के तो एक ओर उद्योग धन्धे नष्ट हो चुके थे, दूसरी तरफ सरकारी कार्यालयों की मांग भी काफी घट गयी थी। दूसरे महायुद्ध के समय हजारों नवयुवक फौज में भर्ती हुए लेकिन महायुद्ध की समाप्ति से फिर वही स्थिति आ गई। शरणार्थियों के आवागमन और आर्थिक संकट ने इस समस्या को ओर तीव्र बना दिया। आजकल उपयोग की वस्तुओं का भी बेरोजगारी का एक कारण है। हमारी श्रमिक शक्ति शून्य रही है एक ओर उत्पादन की कमी है, दूसरी ओर उत्पादन मानव साधन प्रयुक्त पड़े हैं। हमारा किसान वर्ष में 6-7 महीना बेकार रहता है और भूमिहीन श्रमिकों की स्थिति तो ओर भी खराब है-

Sub questions

Question Number : 196 Question Id : 54592724842 Question Type : MCQ Option Shuffling : Yes

Correct Marks : 1 Wrong Marks : 0.25

हमारा किसान कितने समय खाली रहता है?

Options :

1. * कभी नहीं
2. ✓ 6 -7 महीने
3. * सदैव
4. * कभी-कभी

Question Number : 197 Question Id : 54592724843 Question Type : MCQ Option Shuffling : Yes

Correct Marks : 1 Wrong Marks : 0.25

उपरोक्त गद्यांश के अनुसार बेकारी की समस्या किसकी देन है?

Options :

1. * भारत के प्रधानमंत्री की
2. ✓ अंग्रेजी हुकुमत की
3. * देशवासियों की
4. * अशिक्षा की

Question Number : 198 Question Id : 54592724844 Question Type : MCQ Option Shuffling : Yes
Correct Marks : 1 Wrong Marks : 0.25

उपरोक्त अपठित गद्यांश के अनुसार अंग्रेजों ने हिन्दुस्तान का शोषण कैसे किया?

Options :

1. * उद्योग धन्धों को नष्ट किया
2. * सरकारी बाबू तैयार करने की प्रक्रिया को जटिल बनाया
3. * अशिक्षा के कारण
4. ✓ उद्योग धन्धों को नष्ट किया और सरकारी बाबू तैयार करने की प्रक्रिया को जटिल बनाया

Question Number : 199 Question Id : 54592724845 Question Type : MCQ Option Shuffling : Yes
Correct Marks : 1 Wrong Marks : 0.25

उपरोक्त गद्यांश के अनुसार हमारी श्रमिक शक्ति शून्य क्यों पड़ी है?

Options :

1. * एक ओर उत्पादन की कमी
2. * दूसरी ओर उत्पादन के मानव साधन अप्रयुक्त पड़े होने से
3. * श्रमिक को की खराब स्थिति के कारण
4. ✓ एक ओर उत्पादन की कमी और दूसरी ओर उत्पादन के मानव साधन अप्रयुक्त पड़े होने से

Question Number : 200 Question Id : 54592724846 Question Type : MCQ Option Shuffling : Yes
Correct Marks : 1 Wrong Marks : 0.25

निम्नलिखित अपठित गद्यांश का शीर्षक बताइए।

Options :

1. * भारत एक गरीब देश
2. * बेरोजगारी का इतिहास
3. ✓ भारत में बेरोजगारी की समस्या
4. * भारत का किसान

Question Id : 54592724841 Question Type : COMPREHENSION Sub Question Shuffling Allowed : Yes Group Comprehension
Questions : No

Question Numbers : (196 to 200)

Question Label : Comprehension

निम्नलिखित गद्यांश को पढ़कर दिए गए प्रश्न का उत्तर दें।

बेकारों की समस्या अंग्रेजी हुकुमत की देन है। हिन्दुस्तान का शोषण करने के लिए उन्होंने यहाँ के उद्योग धन्धों को नष्ट करना आरंभ किया। अंग्रेजी शिक्षा ने, जिसका उद्देश्य सरकारी क्लर्क या ऑफिस के बाबू तैयार करना या इस समस्या को जटिल बनाया। धीरे-धीरे देश के तो एक ओर उद्योग धन्धे नष्ट हो चुके थे, दूसरी तरफ सरकारी कार्यालयों की मांग भी काफी घट गयी थी। दूसरे महायुद्ध के समय हजारों नवयुवक फौज में भर्ती हुए लेकिन महायुद्ध की समाप्ति से फिर वही स्थिति आ गई। शरणार्थियों के आवागमन और आर्थिक संकट ने इस समस्या को और तीव्र बना दिया। आजकल उपयोग की वस्तुओं का भी बेरोजगारी का एक कारण है। हमारी श्रमिक शक्ति शून्य रही है एक ओर उत्पादन की कमी है, दूसरी ओर उत्पादन मानव साधन प्रयुक्त पड़े हैं। हमारा किसान वर्ष में 6-7 महीना बेकार रहता है और भूमिहीन श्रमिकों की स्थिति तो और भी खराब है-

Sub questions

Question Number : 196 Question Id : 54592724842 Question Type : MCQ Option Shuffling : Yes
Correct Marks : 1 Wrong Marks : 0.25

हमारा किसान कितने समय खाली रहता है?

Options :

1. * कभी नहीं
2. ✓ 6 -7 महीने
3. * सदैव
4. * कभी-कभी

Question Number : 197 Question Id : 54592724843 Question Type : MCQ Option Shuffling : Yes
Correct Marks : 1 Wrong Marks : 0.25

उपरोक्त गद्यांश के अनुसार बेकारी की समस्या किसकी देन है?

Options :

1. ✖ भारत के प्रधानमंत्री की
2. ✔ अंग्रेजी हुकुमत की
3. ✖ देशवासियों की
4. ✖ अशिक्षा की

Question Number : 198 Question Id : 54592724844 Question Type : MCQ Option Shuffling : Yes
Correct Marks : 1 Wrong Marks : 0.25

उपरोक्त अपठित गद्यांश के अनुसार अंग्रेजों ने हिन्दुस्तान का शोषण कैसे किया?

Options :

1. ✖ उद्योग धन्धों को नष्ट किया
2. ✖ सरकारी बाबू तैयार करने की प्रक्रिया को जटिल बनाया
3. ✖ अशिक्षा के कारण
4. ✔ उद्योग धन्धों को नष्ट किया और सरकारी बाबू तैयार करने की प्रक्रिया को जटिल बनाया

Question Number : 199 Question Id : 54592724845 Question Type : MCQ Option Shuffling : Yes
Correct Marks : 1 Wrong Marks : 0.25

उपरोक्त गद्यांश के अनुसार हमारी श्रमिक शक्ति शून्य क्यों पड़ी है?

Options :

1. ✖ एक ओर उत्पादन की कमी
2. ✖ दूसरी ओर उत्पादन के मानव साधन अप्रयुक्त पड़े होने से
3. ✖ श्रमिक को की खराब स्थिति के कारण
4. ✔ एक ओर उत्पादन की कमी और दूसरी ओर उत्पादन के मानव साधन अप्रयुक्त पड़े होने से

निम्नलिखित अपठित गद्यांश का शीर्षक बताइए।

Options :

1. * भारत एक गरीब देश
2. * बेरोजगारी का इतिहास
3. ✓ भारत में बेरोजगारी की समस्या
4. * भारत का किसान