

## Education Consultant India Ltd.

Notations :

1.Options shown in **green** color and with ✓ icon are correct.

2.Options shown in **red** color and with ✖ icon are incorrect.

<b>Question Paper Name:</b>	Grade IV DASS Junior Assistant 05th September 2019 Shift 1
<b>Subject Name:</b>	GRADE IV DASS JUNIOR ASSISTANT
<b>Creation Date:</b>	2019-09-05 11:22:59
<b>Duration:</b>	120
<b>Total Marks:</b>	200
<b>Display Marks:</b>	Yes
<b>Share Answer Key With Delivery Engine:</b>	No
<b>Actual Answer Key:</b>	Yes
<b>Calculator:</b>	None
<b>Magnifying Glass Required?:</b>	No
<b>Ruler Required?:</b>	No
<b>Eraser Required?:</b>	No
<b>Scratch Pad Required?:</b>	No
<b>Rough Sketch/Notepad Required?:</b>	No
<b>Protractor Required?:</b>	No
<b>Show Watermark on Console?:</b>	Yes
<b>Highlighter:</b>	No
<b>Auto Save on Console?:</b>	No

## Mental Ability1

<b>Group Number :</b>	1
<b>Group Id :</b>	5459271191
<b>Group Maximum Duration :</b>	0
<b>Group Minimum Duration :</b>	0
<b>Show Attended Group? :</b>	No
<b>Edit Attended Group? :</b>	No
<b>Break time:</b>	0
<b>Group Marks:</b>	20
<b>Is this Group for Examiner?:</b>	No
<b>Revisit allowed for group Instructions? :</b>	Yes
<b>Maximum Instruction Time:</b>	0
<b>Minimum Instruction Time:</b>	0

## Mental Ability1

<b>Section Id :</b>	5459271191
<b>Section Number :</b>	1

Section type :	Online
Mandatory or Optional:	Mandatory
Number of Questions:	20
Number of Questions to be attempted:	20
Section Marks:	20

Sub-Section Number:	1
Sub-Section Id:	5459271429
Question Shuffling Allowed :	Yes

Question Number : 1 Question Id : 54592724039 Question Type : MCQ Option Shuffling : Yes  
Correct Marks : 1 Wrong Marks : 0.25

From the given responses, find the missing letter in the series.

AU, BW, CY, ??

Options :

1. ✘ BC
2. ✘ KL
3. ✘ MN
4. ✔ DA

Question Number : 1 Question Id : 54592724039 Question Type : MCQ Option Shuffling : Yes  
Correct Marks : 1 Wrong Marks : 0.25

दिए गए विकल्पों में से श्रेणी में लुप्त अक्षर को ज्ञात कीजिए।

AU, BW, CY, ??

Options :

1. ✘ BC
2. ✘ KL
3. ✘ MN
4. ✔ DA

Question Number : 2 Question Id : 54592724040 Question Type : MCQ Option Shuffling : Yes  
Correct Marks : 1 Wrong Marks : 0.25

Find out the next term.

8I49, 11L100, 14O169, ?

Note: For this question, discrepancy is found in question/answer. So, this question is ignored for all candidates.

Options :

1. 5F16

2. 7N49

3. 8M81

4. 5F9

Question Number : 2 Question Id : 54592724040 Question Type : MCQ Option Shuffling : Yes

Correct Marks : 1 Wrong Marks : 0.25

अगला पद ज्ञात कीजिए।

8I49, 11L100, 14O169, ?

Note: For this question, discrepancy is found in question/answer. So, this question is ignored for all candidates.

Options :

1. 5F16

2. 7N49

3. 8M81

4. 5F9

Question Number : 3 Question Id : 54592724041 Question Type : MCQ Option Shuffling : Yes

Correct Marks : 1 Wrong Marks : 0.25

If in 'SEMESTER' vowels are replaced with its previous letter and Consonant are replaced with its next letter then how many vowels are there in the result?

Options :

1. ✓ One

2. \* Two

3. \* Three

4. \* Four

Question Number : 3 Question Id : 54592724041 Question Type : MCQ Option Shuffling : Yes

Correct Marks : 1 Wrong Marks : 0.25

यदि SEMESTER 'के स्वरों को उसके पिछले अक्षर से बदल दिया जाए और व्यंजनों को उसके अगले अक्षर से बदल दिया जाए तो प्राप्त परिणाम में कितने स्वर हैं?

Options :

1. ✓ एक

2. \* दो

3. \* तीन

4. \* चार

Question Number : 4 Question Id : 54592724042 Question Type : MCQ Option Shuffling : Yes

Correct Marks : 1 Wrong Marks : 0.25

Find the odd one out from the given alternatives.

Options :

1. \* Mob

2. \* Herd

3. \* Assembly

4. ✓ Solo

Question Number : 4 Question Id : 54592724042 Question Type : MCQ Option Shuffling : Yes

Correct Marks : 1 Wrong Marks : 0.25

दिए गए विकल्पों में से विषम ज्ञात करें।

Options :

1. \* भीड़

2. \* झुंड

3. ✖ सभा

4. ✔ एकल

Question Number : 5 Question Id : 54592724043 Question Type : MCQ Option Shuffling : Yes

Correct Marks : 1 Wrong Marks : 0.25

In the following question, certain pairs of words are given, out of which the words in all pairs except one, bear a certain common relationship. Choose the pair in which the words are differently related.

Options :

1. ✖ Britain : Cricket

2. ✔ Japan : Rugby

3. ✖ USA : Baseball

4. ✖ Spain: Bull fighting

Question Number : 5 Question Id : 54592724043 Question Type : MCQ Option Shuffling : Yes

Correct Marks : 1 Wrong Marks : 0.25

निम्नलिखित प्रश्न में, कुछ निश्चित शब्द दिए गए हैं, जिनमें से एक को छोड़कर सभी जोड़े में शब्द का एक निश्चित सामान्य संबंध है। उस जोड़ी को चुनें जिसमें शब्द अलग तरह से संबंधित हैं।

Options :

1. ✖ ब्रिटेन: क्रिकेट

2. ✔ जापान: रग्बी

3. ✖ संयुक्त राज्य अमेरिका : बेसबॉल

4. ✖ स्पेन: बुल फाइटिंग

Question Number : 6 Question Id : 54592724044 Question Type : MCQ Option Shuffling : Yes

Correct Marks : 1 Wrong Marks : 0.25

Choose the odd group from the given alternatives.

Options :

1. ✖ AB : EF

2. ✖ BC : FG

3. ✔ PQ : SU

4. ✖ TU : XY

Question Number : 6 Question Id : 54592724044 Question Type : MCQ Option Shuffling : Yes  
Correct Marks : 1 Wrong Marks : 0.25

दिए गए विकल्पों में से विषम को चुनिए।

Options :

1. ✖ AB : EF

2. ✖ BC : FG

3. ✔ PQ : SU

4. ✖ TU : XY

Question Number : 7 Question Id : 54592724045 Question Type : MCQ Option Shuffling : Yes  
Correct Marks : 1 Wrong Marks : 0.25

In the following question, select the related letter/word/number from the given alternatives.

STAR : CONSTELLATION :: Quintal : ?

Options :

1. ✖ pounds

2. ✖ kilolitre

3. ✖ kilogram

4. ✔ tonne

Question Number : 7 Question Id : 54592724045 Question Type : MCQ Option Shuffling : Yes  
Correct Marks : 1 Wrong Marks : 0.25

निम्नलिखित प्रश्न में दिए गए विकल्पों में से सम्बन्धित अक्षर/शब्द/संख्या को चुनिए।

तारा : नक्षत्र-मंडल :: किंवटल : ?

Options :

1. \* पौंड
2. \* किलोलीटर
3. \* किलोग्राम
4. ✓ टन

Question Number : 8 Question Id : 54592724046 Question Type : MCQ Option Shuffling : Yes  
Correct Marks : 1 Wrong Marks : 0.25

In the following question, select the related letter/word/number from the given alternatives.

Airplane : Fleet :: \_\_\_\_ : \_\_\_\_

Options :

1. \* Wheels : bearings
2. \* Shaft : bearings
3. ✓ Soldier : regiment
4. \* Book: printer

Question Number : 8 Question Id : 54592724046 Question Type : MCQ Option Shuffling : Yes  
Correct Marks : 1 Wrong Marks : 0.25

निम्नलिखित प्रश्न में दिए गए विकल्पों में से सम्बन्धित अक्षर/शब्द/संख्या को चुनिए।

हवाई जहाज : बेड़ा :: \_\_\_\_\_ : \_\_\_\_\_

Options :

1. \* पहिया : बियरिंग
2. \* शाफ्ट : बियरिंग
3. ✓ सैनिक: रेजिमेंट
4. \* पुस्तक: प्रिंटर

Question Number : 9 Question Id : 54592724047 Question Type : MCQ Option Shuffling : Yes  
Correct Marks : 1 Wrong Marks : 0.25

In the following question, select the related letter/word/number from the given alternatives.

PH : RI :: \_\_\_\_\_

Options :

1. \* KM : KI
2. ✓ TJ : VK
3. \* XL : LG
4. \* NG : DC

Question Number : 9 Question Id : 54592724047 Question Type : MCQ Option Shuffling : Yes  
Correct Marks : 1 Wrong Marks : 0.25

निम्नलिखित प्रश्न में, दिए गए विकल्पों में से संबंधित अक्षर / शब्द / संख्या को चुनिए।

PH : RI :: \_\_\_\_\_

Options :

1. \* KM : KI
2. ✓ TJ : VK
3. \* XL : LG
4. \* NG : DC



Question Number : 10 Question Id : 54592724048 Question Type : MCQ Option Shuffling : Yes  
Correct Marks : 1 Wrong Marks : 0.25

In a certain code TEAM is written as '33' and AGENCY is written as '26'. How is WIFI written in that code?

Options :

1. ✓ 32
2. ✗ 28
3. ✗ 21
4. ✗ 15

Question Number : 10 Question Id : 54592724048 Question Type : MCQ Option Shuffling : Yes  
Correct Marks : 1 Wrong Marks : 0.25

किसी निश्चित कूट में, TEAM को लिखते '33' हैं और AGENCY को '26' लिखते हैं, उस कूट में WIFI कैसे लिखा जाएगा?

Options :

1. ✓ 32
2. ✗ 28
3. ✗ 21
4. ✗ 15

Question Number : 11 Question Id : 54592724049 Question Type : MCQ Option Shuffling : Yes  
Correct Marks : 1 Wrong Marks : 0.25

If Green means 'courageous', 'courageous' means 'Shop', Shop' means 'Tree', 'Tree' means 'Car', Car' means 'Gym' and Gym' means 'Road', then what runs on the road?

Options :

1. ✗ Tree
2. ✓ Gym
3. ✗ Road
4. ✗ Shop

Question Number : 11 Question Id : 54592724049 Question Type : MCQ Option Shuffling : Yes  
Correct Marks : 1 Wrong Marks : 0.25

यदि 'हरा' का मतलब 'साहसी', 'साहसी' का मतलब 'शॉप', 'शॉप' का मतलब 'पेड़', 'पेड़' का मतलब 'कार', कार का मतलब 'जिम' और जिम का मतलब 'रोड' है, तो रोड पर क्या चलता है?

Options :

1. ✖ पेड़
2. ✔ जिम
3. ✖ रोड
4. ✖ दुकान

Question Number : 12 Question Id : 54592724050 Question Type : MCQ Option Shuffling : Yes  
Correct Marks : 1 Wrong Marks : 0.25

In the following question, a group of letters is given which are numbered 1, 2, 3, 4, 5 and 6. Below are given four alternatives containing combinations of these numbers. Select that combination of numbers so that letters arranged accordingly, form a meaningful word.

I G N H A C  
1 2 3 4 5 6

Options :

1. ✖ 4, 6, 3, 5, 2, 1
2. ✔ 5, 6, 4, 1, 3, 2
3. ✖ 4, 6, 5, 2, 3, 1
4. ✖ 5, 2, 3, 1, 6, 4

Question Number : 12 Question Id : 54592724050 Question Type : MCQ Option Shuffling : Yes  
Correct Marks : 1 Wrong Marks : 0.25

निम्नलिखित प्रश्न में, अक्षरों का एक समूह दिया गया है , संख्या 1, 2, 3, 4, 5 और 6 नीचे दिए गए हैं, इन संख्याओं के संयोजन वाले चार विकल्प दिए गए हैं। संख्याओं के उस संयोजन का चयन करें ताकि अक्षरों के अनुसार व्यवस्थित हो, एक सार्थक शब्द बनाएं।

I G N H A C

1 2 3 4 5 6

Options :

1. ✖ 4, 6, 3, 5, 2, 1

2. ✔ 5, 6, 4, 1, 3, 2

3. ✖ 4, 6, 5, 2, 3, 1

4. ✖ 5, 2, 3, 1, 6, 4

Question Number : 13 Question Id : 54592724051 Question Type : MCQ Option Shuffling : Yes

Correct Marks : 1 Wrong Marks : 0.25

Suman is older than Rashmi. Geeta is younger than Rashmi. Pinki is older than Suman. Who is the eldest of them?

Options :

1. ✔ Pinki

2. ✖ Suman

3. ✖ Rashmi

4. ✖ Geeta

Question Number : 13 Question Id : 54592724051 Question Type : MCQ Option Shuffling : Yes

Correct Marks : 1 Wrong Marks : 0.25

सुमन, रश्मि से उम्र में बड़ी है। गीता रश्मि से छोटी है। पिंकी सुमन से बड़ी है। उनमें से सबसे बड़ा कौन है?

Options :

1. ✔ पिंकी

2. \* सुमन

3. \* रश्मि

4. \* गीता

Question Number : 14 Question Id : 54592724052 Question Type : MCQ Option Shuffling : Yes  
Correct Marks : 1 Wrong Marks : 0.25

Each of the seven persons —Arun , Rahul, Sunil, Rajesh, Kapil, Lala and Thomas — is from a different profession among lawyer, IAS, engineer, professor, scientist, journalist and architect. We also have the following information about them.

- (i) Either Arun or Sunil is the IAS.
- (ii) Neither Sunil nor Lala is the engineer.
- (iii) Rahul is either the lawyer or the professor.
- (iv) Rajesh is the scientist.
- (v) Kapil is either the architect or the lawyer.
- (vi) Thomas is either the IAS or the architect.

Which of the following is the correct pair of the person and his profession?

Options :

1. \* Sunil — Journalist

2. ✓ Lala — Journalist

3. \* Kapil — Professor

4. \* Arun — Architect

Question Number : 14 Question Id : 54592724052 Question Type : MCQ Option Shuffling : Yes  
Correct Marks : 1 Wrong Marks : 0.25

सात व्यक्तियों में से प्रत्येक - अरुण , राहुल , सुनील, राजेश, कपिल, लाला और थॉमस - पेशे से अलग-अलग वकील, आईएएस, इंजीनियर, प्रोफेसर, वैज्ञानिक, पत्रकार और वास्तुकार हैं। हमारे पास उनके बारे में निम्नलिखित जानकारी भी है।

- (i) या तो अरुण या सुनील आईएएस हैं।
- (ii) न तो सुनील और न ही लाला इंजीनियर हैं।
- (iii) राहुल या तो वकील है या प्रोफेसर।
- (iv) राजेश वैज्ञानिक हैं।
- (v) कपिल या तो वास्तुकार या वकील हैं।
- (vi) थॉमस या तो आईएएस या वास्तुकार है।

निम्नलिखित में से कौन-सी व्यक्ति और उसके पेशे की सही जोड़ी है?

Options :

- 1. \* सुनील - पत्रकार
- 2. ✓ लाला - पत्रकार
- 3. \* कपिल - प्रोफेसर
- 4. \* अरुण - वास्तुकार

Question Number : 15 Question Id : 54592724053 Question Type : MCQ Option Shuffling : Yes  
Correct Marks : 1 Wrong Marks : 0.25

Dates of birth of some person are given below. Find out the date of the youngest person:

- a. 12.08. 1901
- b. 13.09.1901
- c. 19.06.1901
- d. 20.02.1901
- e. 22.03.1901
- f. 20.01.1901

Options :

- 1. ✖ g
- 2. ✔ b
- 3. ✖ e
- 4. ✖ c

Question Number : 15 Question Id : 54592724053 Question Type : MCQ Option Shuffling : Yes

Correct Marks : 1 Wrong Marks : 0.25

कुछ व्यक्तियों के जन्म की तिथि नीचे दी गई है सबसे कम उम्र के व्यक्ति की तारीख ज्ञात कीजिए।

- a. 12.08. 1901
- b. 13.09.1901
- c. 19.06.1901
- d. 20.02.1901
- e. 22.03.1901
- f. 20.01.1901

Options :

- 1. ✖ g

2. ✓ b

3. ✗ e

4. ✗ c

Question Number : 16 Question Id : 54592724054 Question Type : MCQ Option Shuffling : Yes  
Correct Marks : 1 Wrong Marks : 0.25

Arav, Bhasker, Krishna, Daksh and Emin rent a racing bike for a ride at most two of them can ride the bike at a time. Also, they can take three rounds of the bike in all such that Krishna and Arav always ride the bike together, whereas Daksh and Bhasker never ride together. Emin rides it in the second round and Bhasker rides it in the last round. If no person can ride more than once, who rides alone?

Options :

1. ✗ Daksh

2. ✗ Bhasker

3. ✓ Emin

4. ✗ Krishna

Question Number : 16 Question Id : 54592724054 Question Type : MCQ Option Shuffling : Yes  
Correct Marks : 1 Wrong Marks : 0.25

अराव, भास्कर, कृष्णा, दक्ष और एमिन एक रेसिंग बाइक किराए पर लेते हैं, एक बार में, उनमें से अधिकांश दो, बाइक की सवारी कर सकते हैं। इसके अलावा, वे बाइक के तीन चक्कर लगा सकते हैं, जैसे कि कृष्णा और अराव हमेशा साथ में बाइक की सवारी करते हैं, जबकि दक्ष और भास्कर कभी भी एक साथ नहीं चलाते हैं। एमिन इसे दूसरे राउंड में और भास्कर अंतिम राउंड में चलाता है। यदि कोई भी व्यक्ति एक से अधिक बार सवारी नहीं कर सकता है, तो अकेले सवारी कौन करता है?

Options :

1. ✖ दक्ष
2. ✖ भास्कर
3. ✔ एमिन
4. ✖ कृष्णा

Question Number : 17 Question Id : 54592724055 Question Type : MCQ Option Shuffling : Yes

Correct Marks : 1 Wrong Marks : 0.25

Pointing to the lady in a marriage function, Anita said, 'She is the sister of the father of my mother's son. Who is the lady to Anita?

Options :

1. ✖ Sister
2. ✔ Aunt
3. ✖ Niece
4. ✖ Mother

Question Number : 17 Question Id : 54592724055 Question Type : MCQ Option Shuffling : Yes

Correct Marks : 1 Wrong Marks : 0.25

एक विवाह समारोह में एक महिला की ओर इशारा करते हुए, अनीता ने कहा, वह मेरी मां के पुत्र के पिता की बहन है। वह महिला, अनीता की कौन है?

Options :

1. ✖ बहन
2. ✔ बुआ
3. ✖ भतीजी
4. ✖ माँ

Question Number : 18 Question Id : 54592724056 Question Type : MCQ Option Shuffling : Yes

Correct Marks : 1 Wrong Marks : 0.25



In the question below, there are two statements followed by three conclusions. You have to take the given statements to be true even if they seem to be at variance with commonly known facts and then decide which of the given conclusion logically follow(s) from the given statements.

Statements:

- I. All Bowler are Batsman.
- II. Some batsman are Wicketkeeper.

Conclusions:

- I. Some Batsman are Bowler.
- II. Some wicketkeeper are Bowler.
- III. Some wicketkeeper are Batsman.

Options :

- 1. ✖ If only conclusion I is true
- 2. ✖ If only conclusion II is true
- 3. ✖ If conclusion I and II follow.
- 4. ✔ If conclusion I and III follow.

Question Number : 18 Question Id : 54592724056 Question Type : MCQ Option Shuffling : Yes  
Correct Marks : 1 Wrong Marks : 0.25

नीचे दिए गए प्रश्न में दो कथन और उसके बाद तीन निष्कर्ष दिए गए हैं। आपको दिए गए कथनों को सत्य मानना है भले ही वे सर्वज्ञात तथ्यों से भिन्न प्रतीत होते हों। सभी निष्कर्षों को पढ़िए फिर तय कीजिए कि दिए गए निष्कर्षों में से कौन सा तर्कसंगत रूप से अनुसरण करता है, चाहे सर्वज्ञात तथ्य कुछ भी हों।

कथन:

सभी गेंदबाज बल्लेबाज हैं।

कुछ बल्लेबाज विकेटकीपर हैं।

निष्कर्ष:

- I. कुछ बल्लेबाज गेंदबाज हैं।
- II. कुछ विकेटकीपर गेंदबाज हैं।
- III. कुछ विकेटकीपर बल्लेबाज हैं।

Options :

1. \* यदि केवल निष्कर्ष I सत्य है
2. \* यदि केवल निष्कर्ष II सत्य है

3. ✖ यदि या निष्कर्ष । या ॥ सत्य है

4. ✔ यदि निष्कर्ष । और ॥ सत्य हैं।

Question Number : 19 Question Id : 54592724057 Question Type : MCQ Option Shuffling : Yes

Correct Marks : 1 Wrong Marks : 0.25

In the following question, there is a statement followed by two courses of action, numbered I and II. You have to assume everything in the statement to be true to decide which of the two suggested courses of action logically follows for pursuing.

Statement:

I. Excessive use of internet is making children shy.

Course of actions:

I. Stop children from using internet.

II. Regulate use of internet by children.

Options :

1. ✖ Only I follows.

2. ✔ Only II follows.

3. ✖ Either I or II follows.

4. ✖ Neither I nor II follows.

Question Number : 19 Question Id : 54592724057 Question Type : MCQ Option Shuffling : Yes

Correct Marks : 1 Wrong Marks : 0.25

निम्नलिखित प्रश्न में, एक कथन के बाद दो कार्यवाही । और ॥ हैं। आपको इस कथन को सत्य मान कर तय करना है कि दी गयी दो कार्यवाही में से कौन सा तार्किक रूप से सही है।

कथन:

इंटरनेट का अत्यधिक उपयोग बच्चों को शर्मसार कर रहा है।

कार्यवाहियां :

- I. बच्चों को इंटरनेट का उपयोग करने से रोकें।
- II. बच्चों द्वारा इंटरनेट के उपयोग पर नियंत्रण।

Options :

1. ✖ केवल I अनुसरण करता है।
2. ✔ केवल II अनुसरण करता है।
3. ✖ या तो I या II अनुसरण करता है।
4. ✖ न तो I और न ही II अनुसरण करता है।

Question Number : 20 Question Id : 54592724058 Question Type : MCQ Option Shuffling : Yes  
Correct Marks : 1 Wrong Marks : 0.25

Complete the following series.

1326, 1723, 2192, 2739, ?

Options :

1. ✔ 3370
2. ✖ 3360
3. ✖ 3250
4. ✖ 3765

Question Number : 20 Question Id : 54592724058 Question Type : MCQ Option Shuffling : Yes

Correct Marks : 1 Wrong Marks : 0.25

निम्नलिखित श्रृंखला को पूरा करें।

1326, 1723, 2192, 2739, ?

Options :

1. ✓ 3370

2. ✗ 3360

3. ✗ 3250

4. ✗ 3765

## Mental Ability2

Group Number :	2
Group Id :	5459271192
Group Maximum Duration :	0
Group Minimum Duration :	0
Show Attended Group? :	No
Edit Attended Group? :	No
Break time:	0
Group Marks:	20
Is this Group for Examiner?:	No
Revisit allowed for group Instructions? :	Yes
Maximum Instruction Time:	0
Minimum Instruction Time:	0

## Mental Ability2

Section Id :	5459271192
Section Number :	1
Section type :	Online
Mandatory or Optional:	Mandatory
Number of Questions:	20
Number of Questions to be attempted:	20
Section Marks:	20

Sub-Section Number:	1
Sub-Section Id:	5459271430

Question Number : 21 Question Id : 54592724059 Question Type : MCQ Option Shuffling : Yes  
Correct Marks : 1 Wrong Marks : 0.25

Find the wrong term in the given series.

28, 54, 106, 210, 418, 832

Options :

1. ✖ 28

2. ✔ 832

3. ✖ 210

4. ✖ 54

Question Number : 21 Question Id : 54592724059 Question Type : MCQ Option Shuffling : Yes  
Correct Marks : 1 Wrong Marks : 0.25

दी गई श्रृंखला में गलत पद ज्ञात करें:

28, 54, 106, 210, 418, 832

Options :

1. ✖ 28

2. ✔ 832

3. ✖ 210

4. ✖ 54

Question Number : 22 Question Id : 54592724060 Question Type : MCQ Option Shuffling : Yes  
Correct Marks : 1 Wrong Marks : 0.25

Choose the odd one from the given options:

Options :

1. ✖ 3795

2. ✖ 9359

3. ✖ 5937

4. ✓ 3745

Question Number : 22 Question Id : 54592724060 Question Type : MCQ Option Shuffling : Yes  
Correct Marks : 1 Wrong Marks : 0.25

दिए गए विकल्पों में से भिन्न संख्या को चुनें।

Options :

1. ✗ 3795

2. ✗ 9359

3. ✗ 5937

4. ✓ 3745

Question Number : 23 Question Id : 54592724061 Question Type : MCQ Option Shuffling : Yes  
Correct Marks : 1 Wrong Marks : 0.25

Choose the odd number pair from the given options:

Options :

1. ✗ 343 : 7

2. ✗ 729 : 9

3. ✗ 512 : 8

4. ✓ 215 : 6

Question Number : 23 Question Id : 54592724061 Question Type : MCQ Option Shuffling : Yes  
Correct Marks : 1 Wrong Marks : 0.25

दिए गए विकल्पों में से विषम संख्या युग्म चुनिए:

Options :

1. ✗ 343 : 7

2. ✗ 729 : 9

3. ✗ 512 : 8

4. ✓ 215 : 6

Question Number : 24 Question Id : 54592724062 Question Type : MCQ Option Shuffling : Yes  
Correct Marks : 1 Wrong Marks : 0.25

Choose the odd numeral pair/group in each of the following questions:

Options :

1. ✓ 3, 9, 81
2. ✗ 9, 81, 829
3. ✗ 5, 25, 225
4. ✗ 7, 49, 443

Question Number : 24 Question Id : 54592724062 Question Type : MCQ Option Shuffling : Yes

Correct Marks : 1 Wrong Marks : 0.25

प्रत्येक निम्नलिखित प्रश्नों में विषम संख्या वाले युग्म / समूह को चुनिए:

Options :

1. ✓ 3, 9, 81
2. ✗ 9, 81, 829
3. ✗ 5, 25, 225
4. ✗ 7, 49, 443

Question Number : 25 Question Id : 54592724063 Question Type : MCQ Option Shuffling : Yes

Correct Marks : 1 Wrong Marks : 0.25

In the following question, select the related letter/word/number from the given alternatives.

(25, 45, 55)

Options :

1. ✓ (40, 72, 88)
2. ✗ (40, 72, 86)
3. ✗ (40, 75, 88)
4. ✗ (40, 75, 82)



Question Number : 25 Question Id : 54592724063 Question Type : MCQ Option Shuffling : Yes  
Correct Marks : 1 Wrong Marks : 0.25

निम्नलिखित प्रश्न में दिए गए विकल्पों में से सम्बन्धित  
अक्षर/शब्द/संख्या को चुनिए।

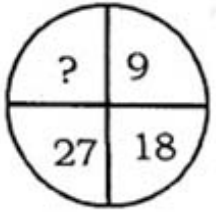
(25, 45, 55)

Options :

1. ✓ (40, 72, 88)
2. ✗ (40, 72, 86)
3. ✗ (40, 75, 88)
4. ✗ (40, 75, 82)

Question Number : 26 Question Id : 54592724064 Question Type : MCQ Option Shuffling : Yes  
Correct Marks : 1 Wrong Marks : 0.25

Find out missing number from the following given options.

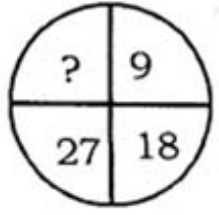


Options :

1. ✗ 40
2. ✓ 36
3. ✗ 39
4. ✗ 44

Question Number : 26 Question Id : 54592724064 Question Type : MCQ Option Shuffling : Yes  
Correct Marks : 1 Wrong Marks : 0.25

निम्नलिखित दिए गए विकल्पों में से लुप्त संख्या ज्ञात कीजिए।



Options :

1. ✖ 40

2. ✔ 36

3. ✖ 39

4. ✖ 44

Question Number : 27 Question Id : 54592724065 Question Type : MCQ Option Shuffling : Yes

Correct Marks : 1 Wrong Marks : 0.25

'P' means ( $\times$ ), 'Q' means ( $-$ ), 'R' means ( $\div$ ) and 'S' means ( $+$ ), then what will be the value of the following expression.

$(70 \text{ R } 2) \text{ S } (28 \text{ R } 7)$

Options :

1. ✖ 42

2. ✖ 41

3. ✔ 39

4. ✖ 44

Question Number : 27 Question Id : 54592724065 Question Type : MCQ Option Shuffling : Yes

Correct Marks : 1 Wrong Marks : 0.25

'P' का मतलब ( $\times$ ), 'Q' का मतलब ( $-$ ), 'R' का मतलब ( $\div$ ) और 'S' का मतलब ( $+$ ) है, तो निम्नलिखित व्यंजक का मान क्या होगा?

$(70 \text{ R } 2) \text{ S } (28 \text{ R } 7)$

Options :

1. ✖ 42
2. ✖ 41
3. ✔ 39
4. ✖ 44

Question Number : 28 Question Id : 54592724066 Question Type : MCQ Option Shuffling : Yes  
Correct Marks : 1 Wrong Marks : 0.25

In the question given below, there is a statement followed by two conclusions. You have to take the given statement to be true even if they seem to be at variance with commonly known facts and then decide which of the given conclusion logically follow(s) from the given statements.

**Statement:**

$$J < C = T \geq U \geq R = N$$

**Conclusions:**

I.  $N < C$

II.  $U > J$

Options :

1. ✖ Only conclusion I is true
2. ✖ Only conclusion II is true
3. ✖ Either conclusion I or II is true
4. ✔ Neither conclusion I nor II is true

Question Number : 28 Question Id : 54592724066 Question Type : MCQ Option Shuffling : Yes  
Correct Marks : 1 Wrong Marks : 0.25

नीचे दिए गए प्रश्न में, एक कथन के बाद दो निष्कर्ष दिए गए हैं । आपको दिए गए कथन को सत्य मानना है, भले ही वे आम तौर पर ज्ञात तथ्यों के साथ विभिन्नता रखते हों और फिर तय करें कि दिए गए कथन में से कौन सा निष्कर्ष तार्किक रूप से अनुसरण करता है।

**Statement:**

$$J < C = T \geq U \geq R = N$$

**Conclusions:**

I.  $N < C$

II.  $U > J$

**Options :**

1. ✖ केवल निष्कर्ष II सत्य है
2. ✖ केवल निष्कर्ष I सत्य है
3. ✖ या तो निष्कर्ष I या II सत्य है
4. ✔ न तो निष्कर्ष I और न ही II सत्य है

Question Number : 29 Question Id : 54592724067 Question Type : MCQ Option Shuffling : Yes

Correct Marks : 1 Wrong Marks : 0.25

In the following question, select the related letter/word/number from the given alternatives.

$$5 : 125 :: 11 : ?$$

**Options :**

1. ✖ 121
2. ✖ 1311
3. ✖ 1321
4. ✔ 1331

Question Number : 29 Question Id : 54592724067 Question Type : MCQ Option Shuffling : Yes

Correct Marks : 1 Wrong Marks : 0.25

निम्नलिखित प्रश्न में, दिए गए विकल्पों में से संबंधित अक्षर / शब्द / संख्या को चुनिए।

$$5 : 125 :: 11 : ?$$



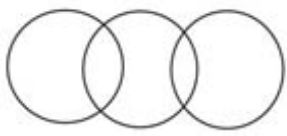
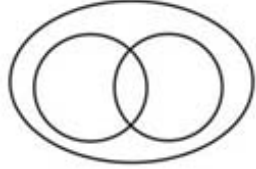
Options :

1. ✘ 121
2. ✘ 1311
3. ✘ 1321
4. ✔ 1331

Question Number : 30 Question Id : 54592724068 Question Type : MCQ Option Shuffling : Yes  
Correct Marks : 1 Wrong Marks : 0.25

Which of the following diagrams best represents a relationship among South India, India and South East India?

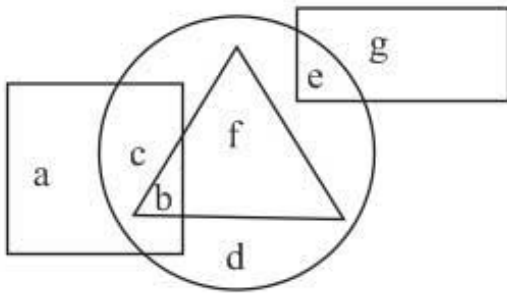
Options :

1. ✘ 
2. ✘ 
3. ✘ 
4. ✔ 

Question Number : 30 Question Id : 54592724068 Question Type : MCQ Option Shuffling : Yes  
Correct Marks : 1 Wrong Marks : 0.25

Question Number : 31 Question Id : 54592724069 Question Type : MCQ Option Shuffling : Yes  
Correct Marks : 1 Wrong Marks : 0.25

In the given figure, the circle represents World, rectangle represents Ocean, and Square represents River and triangle represents island. Which set of letters represents Ocean who are not World?

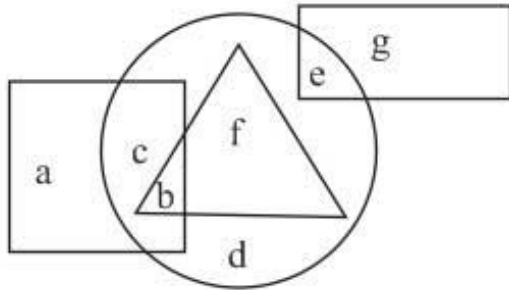


Options :

1. ✓ g
2. ✗ e
3. ✗ c
4. ✗ d

Question Number : 31 Question Id : 54592724069 Question Type : MCQ Option Shuffling : Yes  
Correct Marks : 1 Wrong Marks : 0.25

दिए गए आंकड़े में, वृत्त विश्व का प्रतिनिधित्व करता है, आयत महासागर का प्रतिनिधित्व करता है, और वर्ग नदी का प्रतिनिधित्व करता है एवं त्रिभुज द्वीप का प्रतिनिधित्व करता है। अक्षरों का कौन सा सेट महासागर का प्रतिनिधित्व करता है जो विश्व नहीं हैं?



Options :

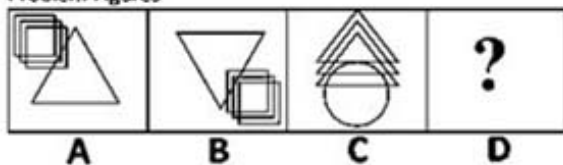
1. ✓ g
2. ✗ e
3. ✗ c
4. ✗ d

Question Number : 32 Question Id : 54592724070 Question Type : MCQ Option Shuffling : Yes

Correct Marks : 1 Wrong Marks : 0.25

In following question, set a four figures forming the problem figure and four other answer figures marked as (a), (b), (c) and (d) is given. The four problem figure have certain common characteristic. Select a answer figure which possess the same characteristic.

Problem Figures



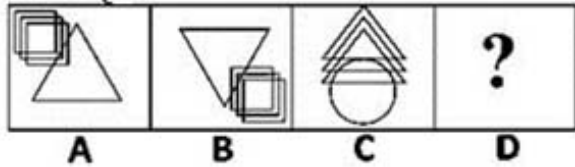
Options :



Question Number : 32 Question Id : 54592724070 Question Type : MCQ Option Shuffling : Yes  
Correct Marks : 1 Wrong Marks : 0.25

निम्नलिखित प्रश्न में, चार चित्र प्रश्न आकृति में और चार उत्तर-आकृति में (a), (b), (c) और (d) के रूप में दिए गए हैं। प्रश्न में दिए गए चित्रों में एक निश्चित विशेषता है। उस उत्तर आकृति का चयन करें जिसमें समान विशेषता हो।

प्रश्न आकृति



Options :



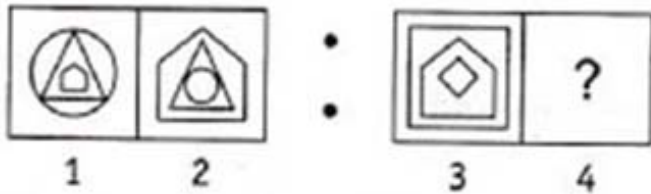




Question Number : 33 Question Id : 54592724071 Question Type : MCQ Option Shuffling : Yes  
 Correct Marks : 1 Wrong Marks : 0.25

The second figure in the first unit of the problem figures bears a certain relationship to the first figure. Similarly, one of the figure in the answer figures bears the same relationship to the first figure in the second unit of the problem figures. You have to select that figure from the set of answer figures which would come in the place of question mark (?)

**Problem Figures**



Options :

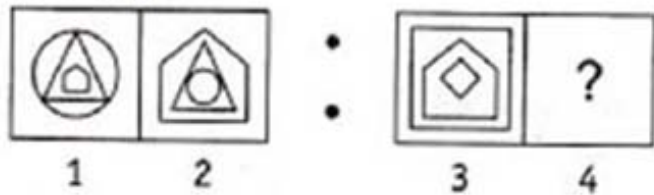




Question Number : 33 Question Id : 54592724071 Question Type : MCQ Option Shuffling : Yes  
 Correct Marks : 1 Wrong Marks : 0.25

प्रश्न आकृति के पहले सेट की दूसरी आकृति, पहली आकृति से एक निश्चित सम्बन्ध रखती है। उसी प्रकार उत्तर-आकृति की दूसरी आकृति प्रश्न आकृति के दूसरे सेट के पहले आकृति सम्बन्ध रखती है। आपको उत्तर आकृति के सेट से उस आकृति का चयन करना होगा जो प्रश्न चिह्न (?) के स्थान पर आएगा।

प्रश्न आकृति



Options :

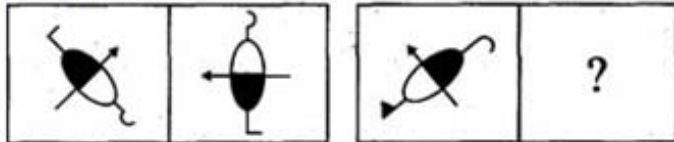





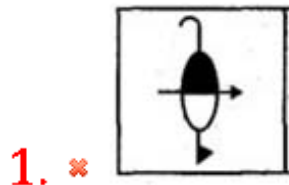
Question Number : 34 Question Id : 54592724072 Question Type : MCQ Option Shuffling : Yes  
Correct Marks : 1 Wrong Marks : 0.25

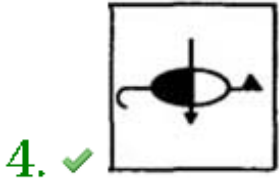
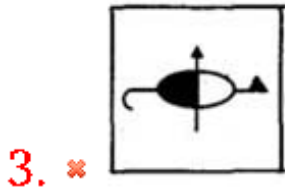
Choose an appropriate figure from the four numbered figures for the place of the questions mark (?).

Question figures



Options :

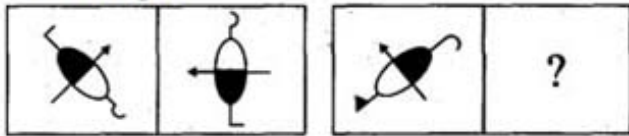




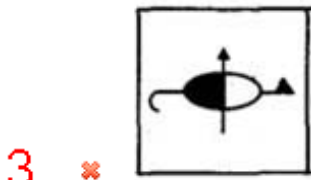
Question Number : 34 Question Id : 54592724072 Question Type : MCQ Option Shuffling : Yes  
Correct Marks : 1 Wrong Marks : 0.25

प्रश्न चिह्न (?) के स्थान पर उत्तर आकृति के रूप में एक उचित आकृति चुनें।

प्रश्न आकृति



Options :



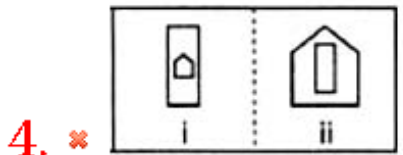
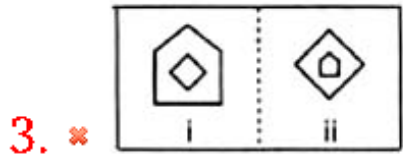
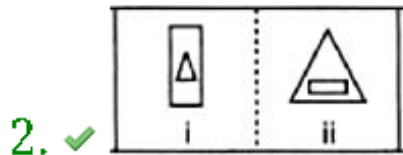
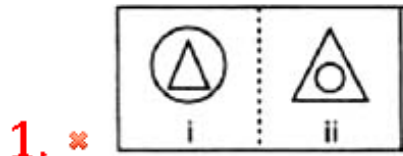


4. ✓

Question Number : 35 Question Id : 54592724073 Question Type : MCQ Option Shuffling : Yes  
 Correct Marks : 1 Wrong Marks : 0.25

In the following questions, element (ii) is related to element (i) in a particular way in four pairs of figures. Find out the pair of figures in which the element (ii) is not related to element (i).

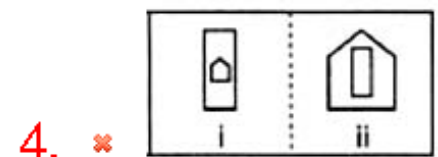
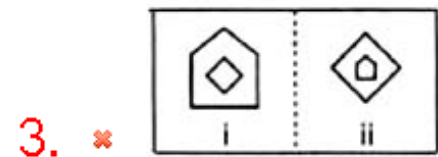
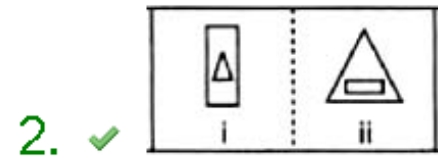
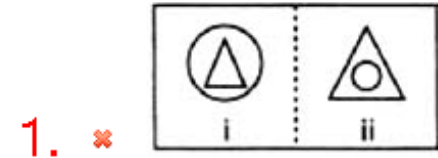
Options :



Question Number : 35 Question Id : 54592724073 Question Type : MCQ Option Shuffling : Yes  
 Correct Marks : 1 Wrong Marks : 0.25

निम्नलिखित प्रश्नों में, आकृति के चारो भाग में तत्व (ii) तत्व (i) से एक निश्चित प्रकार से संबंधित है। उन आकृति जोड़ो का पता लगाएं जिनमे तत्व (ii), तत्व (i) से संबंधित नहीं है।

Options :



Question Number : 36 Question Id : 54592724074 Question Type : MCQ Option Shuffling : Yes  
 Correct Marks : 1 Wrong Marks : 0.25

Choose the correct water image from the given alternatives.

**U S 9 1 Q 4 M 5 3**  
 -----

Options :

1. ✘ **U S 9 1 Q 4 M 5 3**

2. ✘ U 2 9 J Q 4 W 2 3

3. ✘ n 2 9 1 0 4 W 2 3

4. ✔ n 2 0 J 0 4 W 2 3

Question Number : 36 Question Id : 54592724074 Question Type : MCQ Option Shuffling : Yes  
Correct Marks : 1 Wrong Marks : 0.25

दिए गए विकल्पों में से आकृति की सही पानी की छवि आकृति ज्ञात कीजिए।

**U S 9 1 Q 4 M 5 3**  
-----

Options :

1. ✘ U S 0 J 0 4 M 8 2

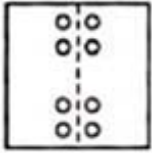
2. ✘ U 2 9 J Q 4 W 2 3

3. ✘ n 2 9 1 0 4 W 2 3

4. ✔ n 2 0 J 0 4 W 2 3

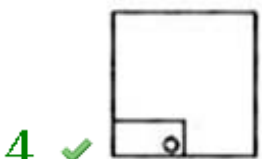
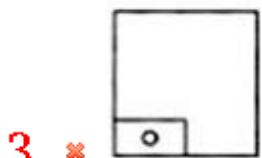
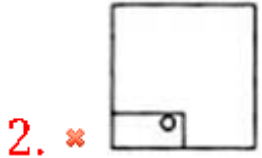
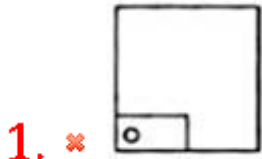
Question Number : 37 Question Id : 54592724075 Question Type : MCQ Option Shuffling : Yes  
Correct Marks : 1 Wrong Marks : 0.25

In the following question a piece of paper is folded in the manner shown in the question figure(s). Select the figure out of the answer choices showing the unfolded pattern after the punches (cut).



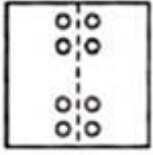
X

Options :



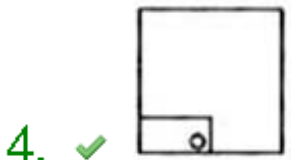
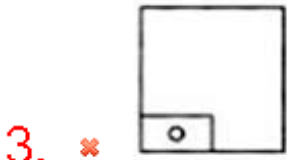
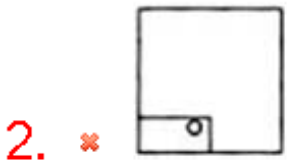
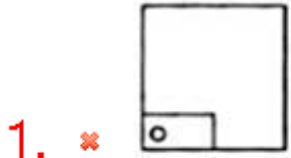


निम्नलिखित प्रश्न में एक कागज के टुकड़े को प्रश्न आकृति में दर्शाए गए तरीके से मोड़ा गया है। कट के बाद प्राप्त पैटर्न को दर्शाने वाले उत्तर विकल्पों में से आकृति का चयन करें।



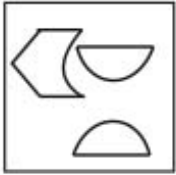
X

Options :

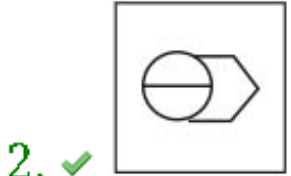


Find out which of the figure (a), (b), (c), (d) can be formed from the pieces given in fig. (X).

Question figures



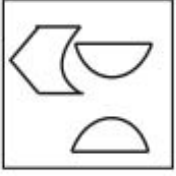
Options :



Question Number : 38 Question Id : 54592724076 Question Type : MCQ Option Shuffling : Yes  
Correct Marks : 1 Wrong Marks : 0.25

(a), (b), (c), (d) में से कौन सी आकृति, आकृति (X) से बनायीं जा सकती हैं?

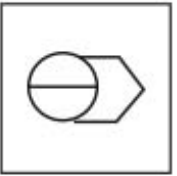
प्रश्न आकृति



Options :



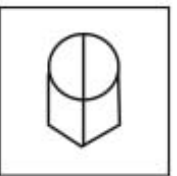
1. ✘



2. ✔




3. ✘



4. ✘

In the following question an unfolded dice is given . From the given alternatives which of the following will be opposite of O ?



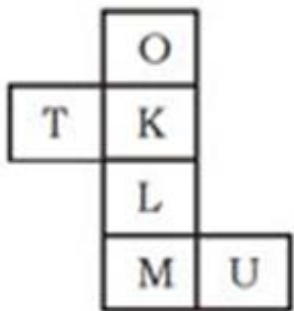
Options :

1. ✖ U
2. ✖ T
3. ✔ L
4. ✖ M

Question Number : 39 Question Id : 54592724077 Question Type : MCQ Option Shuffling : Yes

Correct Marks : 1 Wrong Marks : 0.25

नीचे दिए गए प्रश्न में, एक खुला पासा दिया गया है। विकल्पों से देखकर ज्ञात कीजिए कि कौन सा O के विपरीत होगा?



Options :

1. ✖ U
2. ✖ T
3. ✔ L

4. ✖ M

Question Number : 40 Question Id : 54592724078 Question Type : MCQ Option Shuffling : Yes  
Correct Marks : 1 Wrong Marks : 0.25

A cube of 3cm side is divided into smaller cubes of side 1cm.  
Find the total number of smaller cubes.

Options :

1. ✖ 3

2. ✖ 9

3. ✔ 27

4. ✖ 31

Question Number : 40 Question Id : 54592724078 Question Type : MCQ Option Shuffling : Yes  
Correct Marks : 1 Wrong Marks : 0.25

3 सेमी भुजा के एक घन को 1 सेमी भुजा के छोटे घन में विभाजित  
किया जाता है। छोटे घनों की कुल संख्या ज्ञात कीजिए।

Options :

1. ✖ 3

2. ✖ 9

3. ✔ 27

4. ✖ 31

## General Awareness1

Group Number :	3
Group Id :	5459271193
Group Maximum Duration :	0
Group Minimum Duration :	0
Show Attended Group? :	No
Edit Attended Group? :	No
Break time:	0
Group Marks:	20
Is this Group for Examiner?:	No
Revisit allowed for group Instructions? :	Yes
Maximum Instruction Time:	0
Minimum Instruction Time:	0

# General Awareness1

Section Id :	5459271193
Section Number :	1
Section type :	Online
Mandatory or Optional:	Mandatory
Number of Questions:	20
Number of Questions to be attempted:	20
Section Marks:	20

Sub-Section Number:	1
Sub-Section Id:	5459271431
Question Shuffling Allowed :	Yes

Question Number : 41 Question Id : 54592724079 Question Type : MCQ Option Shuffling : Yes  
Correct Marks : 1 Wrong Marks : 0.25

Which of the following pairs of dances are performed only by women?

Options :

1. ✘ Dandiya and Ghoomar
2. ✔ Giddha and Ghoomar
3. ✘ Giddha and Jatra
4. ✘ Jatra and Chhau

Question Number : 41 Question Id : 54592724079 Question Type : MCQ Option Shuffling : Yes  
Correct Marks : 1 Wrong Marks : 0.25

निम्नलिखित में से कौन से नृत्यों की जोड़ी केवल महिलाओं द्वारा की जाती है?

Options :

1. ✘ दांडिया एवं घूमर
2. ✔ गिद्धा एवं घूमर
3. ✘ गिद्धा एवं जात्रा
4. ✘ जात्रा एवं छऊ

Question Number : 42 Question Id : 54592724080 Question Type : MCQ Option Shuffling : Yes  
Correct Marks : 1 Wrong Marks : 0.25

“Sangeeta Sudhakar” is an important book of Indian music written in the \_\_\_\_\_.

Options :

1. ✖ 2nd century AD
2. ✖ 7th century AD
3. ✖ 10th century AD
4. ✔ 14th century AD

Question Number : 42 Question Id : 54592724080 Question Type : MCQ Option Shuffling : Yes  
Correct Marks : 1 Wrong Marks : 0.25

भारतीय संगीत में “संगीत सुधाकर” एक महत्त्वपूर्ण पुस्तक है, जिसे \_\_\_\_\_ में लिखा गया है।

Options :

1. ✖ 2वीं शताब्दी ई.
2. ✖ 7वीं शताब्दी ई.
3. ✖ 10वीं शताब्दी ई.
4. ✔ 14वीं शताब्दी ई.

Question Number : 43 Question Id : 54592724081 Question Type : MCQ Option Shuffling : Yes  
Correct Marks : 1 Wrong Marks : 0.25

Which of the following is a festival of the state of Assam?

Options :

1. ✔ Rongali Bihu
2. ✖ Onam
3. ✖ Chhat Puja
4. ✖ Pongal

Question Number : 43 Question Id : 54592724081 Question Type : MCQ Option Shuffling : Yes  
Correct Marks : 1 Wrong Marks : 0.25

निम्नलिखित में से कौन सा असम राज्य का त्योहार है?

Options :

1. ✓ रोंगाली बिहू
2. \* ओणम
3. \* छठ पूजा
4. \* पोंगल

Question Number : 44 Question Id : 54592724082 Question Type : MCQ Option Shuffling : Yes

Correct Marks : 1 Wrong Marks : 0.25

Choose the incorrect statement about the Red Fort out of the following.

Options :

1. \* Shah Jahan laid the foundation stone of the Red Fort in 1618
2. \* It has the Diwan-e-Khas and Diwan-e-Aam
3. \* The building has the engraving "If there is paradise on the face of this earth, it is this, it is this."
4. ✓ The famous Peacock Throne was housed in Red Fort, which was plundered by Nadir Shah in 1839

Question Number : 44 Question Id : 54592724082 Question Type : MCQ Option Shuffling : Yes

Correct Marks : 1 Wrong Marks : 0.25

लाल किले के बारे में निम्न में से गलत कथन का चयन करें।

Options :

1. \* शाहजहाँ ने 1618 में लाल किले की नींव रखी
2. \* इसमें दीवान-ए-खास और दीवान-ए-आम है
3. \* इस भवन में उत्कीर्णन है "यदि इस पृथ्वी पर कहीं स्वर्ग है तो यहीं हैं"।
4. ✓ प्रसिद्ध मयूर सिंहासन लाल किले में रखा गया था, जिसे 1839 में नादिर शाह द्वारा हथिया लिया गया था



Question Number : 45 Question Id : 54592724083 Question Type : MCQ Option Shuffling : Yes  
Correct Marks : 1 Wrong Marks : 0.25

In which year was the FRBM Act enacted in India?

Options :

1. ✖ 2001
2. ✖ 2002
3. ✔ 2003
4. ✖ 2004

Question Number : 45 Question Id : 54592724083 Question Type : MCQ Option Shuffling : Yes  
Correct Marks : 1 Wrong Marks : 0.25

भारत में एफ.आर.बी.एम. अधिनियम का किस वर्ष में लागू किया गया?

Options :

1. ✖ 2001
2. ✖ 2002
3. ✔ 2003
4. ✖ 2004

Question Number : 46 Question Id : 54592724084 Question Type : MCQ Option Shuffling : Yes  
Correct Marks : 1 Wrong Marks : 0.25

Which of the following is not a quantitative monetary policy tools?

Options :

1. ✖ Repo Rate
2. ✖ Open Market Operations
3. ✔ Moral Suasion
4. ✖ Cash Reserve Ratio

Question Number : 46 Question Id : 54592724084 Question Type : MCQ Option Shuffling : Yes  
Correct Marks : 1 Wrong Marks : 0.25

निम्नलिखित में से कौन सा परिमाणात्मक मौद्रिक नीति उपकरण नहीं है?

Options :

1. ✖ रेपो दर
2. ✖ खुले बाज़ार की क्रियाएं
3. ✔ नैतिक दबाव
4. ✖ नकद आरक्षित अनुपात

Question Number : 47 Question Id : 54592724085 Question Type : MCQ Option Shuffling : Yes

Correct Marks : 1 Wrong Marks : 0.25

Which of the following methods can't be used to calculate the GDP of a nation?

Options :

1. ✖ Product method
2. ✖ Income method
3. ✖ Expenditure method
4. ✔ Tax Method

Question Number : 47 Question Id : 54592724085 Question Type : MCQ Option Shuffling : Yes

Correct Marks : 1 Wrong Marks : 0.25

किसी राष्ट्र की सकल घरेलु उत्पाद की गणना करने के लिए निम्नलिखित में से किस विधि का उपयोग नहीं कर सकते हैं?

Options :

1. ✖ उत्पाद विधि
2. ✖ आय विधि
3. ✖ व्यय विधि
4. ✔ कर विधि

Question Number : 48 Question Id : 54592724086 Question Type : MCQ Option Shuffling : Yes

Correct Marks : 1 Wrong Marks : 0.25

The Magnetic Declination is highest at the \_\_\_\_\_.

Options :

1. \* Equator
2. \* Tropic of Cancer
3. ✓ North Pole
4. \* Tropic of Capricorn

Question Number : 48 Question Id : 54592724086 Question Type : MCQ Option Shuffling : Yes  
Correct Marks : 1 Wrong Marks : 0.25

चुम्बकीय दिक्पात \_\_\_\_\_ पर सबसे अधिक होता है।

Options :

1. \* विषुवत रेखा
2. \* कर्क रेखा
3. ✓ उत्तरी ध्रुव
4. \* मकर रेखा

Question Number : 49 Question Id : 54592724087 Question Type : MCQ Option Shuffling : Yes  
Correct Marks : 1 Wrong Marks : 0.25

Which of the following food articles is correctly matched with its molecular formula?

Options :

1. \* Baking Soda - NaCl
2. \* Salt - CH<sub>3</sub>COOH
3. ✓ Table Sugar - C<sub>12</sub>H<sub>22</sub>O<sub>11</sub>
4. \* Vinegar - NaHCO<sub>3</sub>

Question Number : 49 Question Id : 54592724087 Question Type : MCQ Option Shuffling : Yes  
Correct Marks : 1 Wrong Marks : 0.25

निम्नलिखित में से कौन सा खाद्य अपने आणविक सूत्र से सही ढंग से मिला हुआ है?

Options :

1. \* बेकिंग सोडा - NaCl
2. \* लवण - CH<sub>3</sub>COOH
3. ✓ टेबल शूगर - C<sub>12</sub>H<sub>22</sub>O<sub>11</sub>
4. \* सिरका - NaHCO<sub>3</sub>

Question Number : 50 Question Id : 54592724088 Question Type : MCQ Option Shuffling : Yes

Correct Marks : 1 Wrong Marks : 0.25

Which of the following is a characteristic of leucocytes?

Options :

1. \* They are the most abundant of all the cells in blood
2. \* These are devoid of nucleus in most of the mammals and are biconcave in shape
3. ✓ These are colourless due to the lack of haemoglobin
4. \* These have a long life span

Question Number : 50 Question Id : 54592724088 Question Type : MCQ Option Shuffling : Yes

Correct Marks : 1 Wrong Marks : 0.25

निम्नलिखित में से कौन सा ल्यूकोसाइट की विशेषता है?

Options :

1. \* यह अन्य सभी कोशिकाओं से संख्या में सबसे अधिक होती है
2. \* अधिकतर स्तनधारियों की ल्यूकोसाइट के कणिकाओं में केंद्रक नहीं मिलते हैं और इनकी आकृति उभयावतल (बाईकोनकेव) होती है
3. ✓ हीमोग्लोबिन के अभाव के कारण यह रंगहीन है
4. \* यह लम्बे समय तक जीवित रहते हैं

Question Number : 51 Question Id : 54592724089 Question Type : MCQ Option Shuffling : Yes

Correct Marks : 1 Wrong Marks : 0.25

You are on a train and you want to have some tea. Since you are very concerned about the environment and hygiene both, then in which of the following cups would you have your tea?

Options :

1. ✖ Disposable plastic cup
2. ✖ Kulhad (Disposable clay cup)
3. ✖ Reusable plastic cups which has to be returned to the vendor
4. ✔ Disposable paper-cups

Question Number : 51 Question Id : 54592724089 Question Type : MCQ Option Shuffling : Yes

Correct Marks : 1 Wrong Marks : 0.25

आप एक ट्रेन में हैं और आप चाय पीना चाहते हैं। चूंकि आप पर्यावरण और स्वच्छता दोनों के बारे में बहुत चिंतित हैं, तो आप निम्नलिखित में से किस कप में अपनी चाय पीएंगे?

Options :

1. ✖ डिस्पोजेबल प्लास्टिक कप
2. ✖ कुल्हड़ (मिट्टी के पात्र)
3. ✖ पुनः प्रयोज्य प्लास्टिक के कप जो चाय-विक्रेता को वापस करने होंगे
4. ✔ डिस्पोजेबल पेपर कप

Question Number : 52 Question Id : 54592724090 Question Type : MCQ Option Shuffling : Yes

Correct Marks : 1 Wrong Marks : 0.25

What does the H in the acronym WASH (of UNICEF) stand for?

Options :

1. ✖ Heat
2. ✖ Homes
3. ✔ Hygiene

## 4. \* Housing

Question Number : 52 Question Id : 54592724090 Question Type : MCQ Option Shuffling : Yes  
Correct Marks : 1 Wrong Marks : 0.25

परिवर्णी शब्द WASH (UNICEF के) में H का पूर्ण रूप क्या है?

Options :

1. \* ऊष्मा
2. \* होम्स
3. ✓ हाइजीन
4. \* हाउसिंग

Question Number : 53 Question Id : 54592724091 Question Type : MCQ Option Shuffling : Yes  
Correct Marks : 1 Wrong Marks : 0.25

Which of the following chemicals is not added during the purification of raw-water for obtaining drinking water?

Options :

1. \* Ozone
2. \* Chlorine
3. \* Soda ash
4. ✓ Calcium Carbonate

Question Number : 53 Question Id : 54592724091 Question Type : MCQ Option Shuffling : Yes  
Correct Marks : 1 Wrong Marks : 0.25

निम्नलिखित में से कौन सा रसायन पेयजल प्राप्त करने के लिए कच्चे पानी की शुद्धि के दौरान नहीं जोड़ा जाता है?

Options :

1. \* ओजोन
2. \* क्लोरीन
3. \* सोडा ऐश
4. ✓ कैल्शियम कार्बोनेट

Question Number : 54 Question Id : 54592724092 Question Type : MCQ Option Shuffling : Yes

Correct Marks : 1 Wrong Marks : 0.25

Which of the following will fall under the category of physical contaminants of drinking water?

Options :

1. ✖ Pesticides
2. ✖ Bacteria
3. ✖ Cesium
4. ✔ Soil

Question Number : 54 Question Id : 54592724092 Question Type : MCQ Option Shuffling : Yes

Correct Marks : 1 Wrong Marks : 0.25

निम्नलिखित में से कौन पीने के पानी के भौतिक संदूषक की श्रेणी में आएगा?

Options :

1. ✖ कीटनाशक
2. ✖ जीवाणु
3. ✖ सीज़ियम
4. ✔ मिट्टी

Question Number : 55 Question Id : 54592724093 Question Type : MCQ Option Shuffling : Yes

Correct Marks : 1 Wrong Marks : 0.25

Which of the following diseases is/are caused by virus?

Options :

1. ✔ SARS only
2. ✖ Acne only
3. ✖ Sleeping Sickness only
4. ✖ SARS, Acne and Sleeping Sickness

Question Number : 55 Question Id : 54592724093 Question Type : MCQ Option Shuffling : Yes

Correct Marks : 1 Wrong Marks : 0.25

निम्नलिखित में से कौन सी बीमारी विषाणु के कारण होती है?

Options :

1. ✓ केवल एस.ए.आर.एस. (सार्स)
2. ✗ केवल मुँहासे
3. ✗ केवल निन्द्रालु व्याधि
4. ✗ एस.ए.आर.एस. (सार्स), मुँहासे और निन्द्रालु व्याधि

Question Number : 56 Question Id : 54592724094 Question Type : MCQ Option Shuffling : Yes

Correct Marks : 1 Wrong Marks : 0.25

Out of the given options, identify the tributaries of the Indus river:

Options :

1. ✗ the Dibang and the Lohit
2. ✓ the Zaskar, the Nubra, the Shyok and the Hunza
3. ✗ the Chambal, the Betwa and the Son
4. ✗ the Purna, the Pranhita and the Wardha

Question Number : 56 Question Id : 54592724094 Question Type : MCQ Option Shuffling : Yes

Correct Marks : 1 Wrong Marks : 0.25

दिए गए विकल्पों में से, सिंधु नदी की सहायक नदियों की पहचान करें:

Options :

1. ✗ दिबांग और लोहित
2. ✓ जस्कर, नुब्रा, श्योक और हुंजा
3. ✗ चंबल, बेतवा और सोन
4. ✗ पूर्णा, प्राणहिता और वर्धा

Question Number : 57 Question Id : 54592724095 Question Type : MCQ Option Shuffling : Yes

Correct Marks : 1 Wrong Marks : 0.25

Which of the following arrangements of the peaks in ascending order of their heights is correct?

Options :



1. ✓ Gurla Mandhata, Namcha Barwa, Annapurna, Dhaulagiri, Kanchenjunga
2. ✘ Gurla Mandhata, Annapurna, Namcha Barwa, Kanchenjunga, Dhaulagiri
3. ✘ Kanchenjunga, Gurla Mandhata, Namcha Barwa, Annapurna, Dhaulagiri,
4. ✘ Dhaulagiri, Gurla Mandhata, Namcha Barwa, Annapurna, Kanchenjunga

Question Number : 57 Question Id : 54592724095 Question Type : MCQ Option Shuffling : Yes

Correct Marks : 1 Wrong Marks : 0.25

निम्नलिखित चोटियों को उनकी ऊंचाइयों के आरोही क्रम में व्यवस्थित करें तो सही व्यवस्था कौनसी होगी?

Options :

1. ✓ गुरला मनधाता, नमचा बरवा, अन्नपूर्णा, धौलागिरी, कंचनजंगा
2. ✘ गुरला मनधाता, अन्नपूर्णा, नमचा बरवा, कंचनजंगा, धौलागिरी
3. ✘ कंचनजंगा, गुरला मनधाता, नमचा बरवा, अन्नपूर्णा, धौलागिरी
4. ✘ धौलागिरी, गुरला मनधाता, नमचा बरवा, अन्नपूर्णा, कंचनजंगा

Question Number : 58 Question Id : 54592724096 Question Type : MCQ Option Shuffling : Yes

Correct Marks : 1 Wrong Marks : 0.25

Which of the following is not a factor that affects the distribution of temperature of the ocean-water directly?

Options :

1. ✘ Unequal distribution of land and water
2. ✘ Prevailing wind
3. ✘ Ocean currents
4. ✓ Coriolis effect

Question Number : 58 Question Id : 54592724096 Question Type : MCQ Option Shuffling : Yes

Correct Marks : 1 Wrong Marks : 0.25

निम्नलिखित में से कौन सा ऐसा कारक नहीं है जो समुद्र-जल के तापमान के वितरण को सीधे प्रभावित करता है?

Options :

1. \* भूमि और पानी का असमान वितरण
2. \* सनातन पवन
3. \* महासागरीय धाराएँ
4. ✓ कोरिओलिस प्रभाव

Question Number : 59 Question Id : 54592724097 Question Type : MCQ Option Shuffling : Yes

Correct Marks : 1 Wrong Marks : 0.25

Which of the following soil is rich in lime, iron, magnesia and alumina, contains potash, but lacks in phosphorous, nitrogen and organic matter?

Options :

1. \* Alluvial soil
2. \* Arid soil
3. ✓ Black soil
4. \* Laterite soil

Question Number : 59 Question Id : 54592724097 Question Type : MCQ Option Shuffling : Yes

Correct Marks : 1 Wrong Marks : 0.25

निम्न में से कौनसी मृदाओं में चूने, लौह, मैग्नीशिया तथा ऐलुमिना के तत्त्व काफी मात्रा में पाए जाते हैं, लेकिन इनमें फ़ास्फ़रोस, नाइट्रोजन और जैव पदार्थों की कमी होती है?

Options :

1. \* जलोढ़ मृदा
2. \* शुष्क मृदा
3. ✓ काली मृदा

## 4. \* लैटराइट मृदा

Question Number : 60 Question Id : 54592724098 Question Type : MCQ Option Shuffling : Yes  
Correct Marks : 1 Wrong Marks : 0.25

According to the Census 2011, find the incorrect statements out of the following.

Options :

1. \* The population density of India in the year 2011 was 382 persons per sq. km
2. ✓ India has the highest population density in the world
3. \* The number of 'million plus cities' in India have already crossed 50 by 2011
4. \* The total population of India is 1210.6 million

Question Number : 60 Question Id : 54592724098 Question Type : MCQ Option Shuffling : Yes  
Correct Marks : 1 Wrong Marks : 0.25

2011 की जनगणना के अनुसार, निम्नलिखित में से गलत कथन ज्ञात कीजिए।

Options :

1. \* वर्ष 2011 में भारत की जनसंख्या का घनत्व 382 व्यक्ति प्रति वर्ग किमी था
2. ✓ विश्व में सर्वाधिक जनसंख्या घनत्व भारत का है
3. \* भारत में ('मिलियन प्लस सिटीज़') 'मिलियन से अधिक शहरों' की संख्या वर्ष 2011 से पहले ही 50 पार कर चुकी है
4. \* भारत की कुल जनसंख्या 1210.6 मिलियन है

## General Awareness2

Group Number :

4

Group Id :

5459271194

Group Maximum Duration :

0

Group Minimum Duration :	0
Show Attended Group? :	No
Edit Attended Group? :	No
Break time:	0
Group Marks:	20
Is this Group for Examiner?:	No
Revisit allowed for group Instructions? :	Yes
Maximum Instruction Time:	0
Minimum Instruction Time:	0

## General Awareness2

Section Id :	5459271194
Section Number :	1
Section type :	Online
Mandatory or Optional:	Mandatory
Number of Questions:	20
Number of Questions to be attempted:	20
Section Marks:	20

Sub-Section Number:	1
Sub-Section Id:	5459271432
Question Shuffling Allowed :	Yes

Question Number : 61 Question Id : 54592724099 Question Type : MCQ Option Shuffling : Yes  
Correct Marks : 1 Wrong Marks : 0.25

Which of the following countries shares its borders with the state of Sikkim?

Options :

1. ✖ Bhutan and Nepal only
2. ✖ Nepal and China (Tibet) only
3. ✖ China (Tibet) and Bhutan only
4. ✔ Bhutan, Nepal and China (Tibet)

Question Number : 61 Question Id : 54592724099 Question Type : MCQ Option Shuffling : Yes  
Correct Marks : 1 Wrong Marks : 0.25

निम्नलिखित में से कौन सा देश सिक्किम राज्य के साथ अपनी सीमाएँ साझा करता है?

Options :

1. ✖ केवल भूटान और नेपाल

2. ✖ केवल नेपाल और चीन (तिब्बत)
3. ✖ केवल चीन (तिब्बत) और भूटान
4. ✔ भूटान, नेपाल और चीन (तिब्बत)

Question Number : 62 Question Id : 54592724100 Question Type : MCQ Option Shuffling : Yes  
Correct Marks : 1 Wrong Marks : 0.25

In which of the following states is the ancient Indus Valley site of Dholavira found?

Options :

1. ✔ Gujarat
2. ✖ Rajasthan
3. ✖ Maharashtra
4. ✖ Haryana

Question Number : 62 Question Id : 54592724100 Question Type : MCQ Option Shuffling : Yes  
Correct Marks : 1 Wrong Marks : 0.25

धोलावीरा का प्राचीन सिंधु घाटी स्थल निम्नलिखित में से किस राज्य में मिला?

Options :

1. ✔ गुजरात
2. ✖ राजस्थान
3. ✖ महाराष्ट्र
4. ✖ हरियाणा

Question Number : 63 Question Id : 54592724101 Question Type : MCQ Option Shuffling : Yes  
Correct Marks : 1 Wrong Marks : 0.25

During the 1560s which Mughal emperor had the fort of Agra constructed with red sandstone quarried from the adjoining regions?

Options :

1. ✖ Babur

2. ✓ Akbar

3. ✘ Shah Jahan

4. ✘ Aurangzeb

Question Number : 63 Question Id : 54592724101 Question Type : MCQ Option Shuffling : Yes  
Correct Marks : 1 Wrong Marks : 0.25

1560 के दशक के दौरान, किस मुगल सम्राट ने आसपास के क्षेत्रों से लाये गए लाल बलुआ पत्थर के साथ आगरा के किले का निर्माण किया था?

Options :

1. ✘ बाबर

2. ✓ अकबर

3. ✘ शाहजहाँ

4. ✘ औरंगजेब

Question Number : 64 Question Id : 54592724102 Question Type : MCQ Option Shuffling : Yes  
Correct Marks : 1 Wrong Marks : 0.25

Which of the following statements about Indian textile is incorrect?

Options :

1. ✘ The first cotton mill in India was set up as a spinning mill in Bombay in 1854

2. ✘ The Charkha was put at the centre of the tricolour flag of the Indian National Congress adopted in 1931

3. ✓ The tanti weavers were famous textile-workers of South India

4. ✘ The Indian textiles failed to compete with the British textiles in the American markets

Question Number : 64 Question Id : 54592724102 Question Type : MCQ Option Shuffling : Yes  
Correct Marks : 1 Wrong Marks : 0.25

भारतीय कपड़े के बारे में निम्नलिखित में से कौन सा कथन गलत है?

Options :

1. \* भारत में पहले कपास के कारखाने की स्थापना 1854 में बॉम्बे में कताईकारखाने के रूप में की गई थी
2. \* 1931 में अपनाए गए भारतीय राष्ट्रीय कांग्रेस के तिरंगे झंडे के केंद्र में चरखे को रखा गया था
3. ✓ तांती बुनकर दक्षिण भारत के प्रसिद्ध कपड़ा-मजदूर थे
4. \* भारतीय वस्त्र अमेरिकी बाजारों में ब्रिटिश वस्त्रों के साथ प्रतिस्पर्धा करने में विफल रहे

Question Number : 65 Question Id : 54592724103 Question Type : MCQ Option Shuffling : Yes

Correct Marks : 1 Wrong Marks : 0.25

Which of the following statements about the Indian social reformers and their major contribution is correct?

Options :

1. \* Raja Rammohan Roy used the ancient texts to suggest that widows could remarry
2. \* Jyotirao Phule was based in Bengal and worked for the abolition of sati
3. \* Ishwar Chandra Vidyasagar established schools for girls in Maharashtra
4. ✓ Henry Vivian Derozio was one of the first Indian educators to disseminate Western learning and science among the young Indians

Question Number : 65 Question Id : 54592724103 Question Type : MCQ Option Shuffling : Yes

Correct Marks : 1 Wrong Marks : 0.25

भारतीय समाज सुधारकों और उनके प्रमुख योगदान के बारे में निम्नलिखित में से कौन सा कथन सही है?

Options :

1. \* राजा राममोहन राय ने प्राचीन ग्रंथों का उपयोग यह सुझाव देने के लिए किया कि विधवाएँ पुनर्विवाह कर सकती हैं
2. \* ज्योतिराव फुले बंगाल में थे एवं सती प्रथा उन्मूलन के लिए काम किया
3. \* ईश्वर चंद्र विद्यासागर ने महाराष्ट्र में लड़कियों के लिए स्कूल स्थापित किए
4. ✓ हेनरी विवियन डेरोजियो युवा भारतीयों में पश्चिमी शिक्षा और विज्ञान का प्रसार करने वाले प्रथम भारतीय शिक्षकों में से एक थे

Question Number : 66 Question Id : 54592724104 Question Type : MCQ Option Shuffling : Yes

Correct Marks : 1 Wrong Marks : 0.25

Why did Gandhiji decide to call off the Civil Disobedience Movement in 1931?

Options :

1. \* He was shocked by the level of violence that happened at the Chauri Chaura Massacre
2. \* Due to large scale police repression the movement had lost its momentum
3. \* The main leaders – Jawaharlal Nehru, Mahatma Gandhi, Subhash Chandra Bose were put in jail
4. ✓ Gandhiji had signed a pact with Lord Irwin

Question Number : 66 Question Id : 54592724104 Question Type : MCQ Option Shuffling : Yes

Correct Marks : 1 Wrong Marks : 0.25

गांधीजी ने 1931 में सविनय अवज्ञा आंदोलन बंद करने का फैसला क्यों किया?



Options :

1. \* चोरी चौरा नरसंहार में हुई हिंसा के स्तर से वह दुखी थे
2. \* बड़े पैमाने पर पुलिस दमन के कारण आंदोलन अपनी गति खो चुका था
3. \* मुख्य नेता - जवाहरलाल नेहरू, महात्मा गांधी, सुभाष चंद्र बोस को जेल में डाल दिया गया था
4. ✓ गांधीजी ने लॉर्ड इरविन के साथ एक समझौते पर हस्ताक्षर किए थे

Question Number : 67 Question Id : 54592724105 Question Type : MCQ Option Shuffling : Yes

Correct Marks : 1 Wrong Marks : 0.25

Which of the following events in the Indian National Movement doesn't match with the year in which they happened?

Options :

1. \* Mahatma Gandhi decides to launch a nationwide satyagraha against the proposed Rowlatt Act - 1919
2. \* The Congress adopts the Non-Cooperation programme – 1920
3. ✓ Simon Commission arrives in India – 1927
4. \* Lord Irwin proposed for a Round Table Conference to discuss a future Constitution – 1929

Question Number : 67 Question Id : 54592724105 Question Type : MCQ Option Shuffling : Yes

Correct Marks : 1 Wrong Marks : 0.25

भारतीय राष्ट्रीय आंदोलन में निम्नलिखित में से कौन सी घटना उस वर्ष के साथ मेल नहीं खाती है जिसमें वे हुए थे?

Options :

1. \* महात्मा गांधी ने प्रस्तावित रौलट एक्ट के खिलाफ एक राष्ट्रव्यापी सत्याग्रह शुरू करने का फैसला किया - 1919
2. \* असहयोग कार्यक्रम को कांग्रेस ने अपनाया- 1920
3. ✓ साइमन कमीशन भारत में आया - 1927
4. \* लॉर्ड इरविन ने भविष्य के संविधान पर चर्चा के लिए एक गोलमेज सम्मेलन का प्रस्ताव दिया - 1929

Question Number : 68 Question Id : 54592724106 Question Type : MCQ Option Shuffling : Yes  
Correct Marks : 1 Wrong Marks : 0.25

Out of the following options choose the person who is a famous journalist in India?

Options :

1. \* Taslima Nasreen
2. \* Kailash Vijayvargiya
3. ✓ Prannoy Roy
4. \* Harmanpreet Kaur

Question Number : 68 Question Id : 54592724106 Question Type : MCQ Option Shuffling : Yes  
Correct Marks : 1 Wrong Marks : 0.25

निम्नलिखित विकल्पों में से वह व्यक्ति चुनें जो भारत में एक प्रसिद्ध पत्रकार है।

Options :

1. \* तसलीमा नसरीन
2. \* कैलाश विजयवर्गीय
3. ✓ प्रणय रॉय
4. \* हरमनप्रीत कौर

Question Number : 69 Question Id : 54592724107 Question Type : MCQ Option Shuffling : Yes  
Correct Marks : 1 Wrong Marks : 0.25

(i)\_\_\_\_\_ has recently been honoured with the (ii)\_\_\_\_\_ Award in 2019.

Options :

1. \* (i) Balwant Moreshwar Purandare, (ii) Bharat Ratna
2. \* (i) Pranab Mukherjee, (ii) Padma Vibhushan
3. ✓ (i) Bhupen Hazarika (ii) Bharat Ratna
4. \* (i) Nanaji Deshmukh, (ii) Padma Vibhushan

Question Number : 69 Question Id : 54592724107 Question Type : MCQ Option Shuffling : Yes

Correct Marks : 1 Wrong Marks : 0.25

(i) \_\_\_\_\_ को हाल ही में 2019 में (ii) \_\_\_\_\_ पुरस्कार से सम्मानित किया गया है।

Options :

1. \* (i) बलवंत मोरेश्वर पुरंदरे, (ii) भारत रत्न
2. \* (i) प्रणब मुखर्जी , (ii) पद्म विभूषण
3. ✓ (i) भूपेन हजारिका (ii) भारत रत्न
4. \* (i) नानाजी देशमुख (ii) पद्म विभूषण

Question Number : 70 Question Id : 54592724108 Question Type : MCQ Option Shuffling : Yes

Correct Marks : 1 Wrong Marks : 0.25

Narendra Modi has been presented with the 'Order of the rule of Izzudeen', which is the highest honour on a foreign national in?

Options :

1. \* UAE
2. ✓ Maldives
3. \* Mauritius
4. \* Malaysia

Question Number : 70 Question Id : 54592724108 Question Type : MCQ Option Shuffling : Yes

Correct Marks : 1 Wrong Marks : 0.25

नरेंद्र मोदी को 'इज़्जुदीन के शासन के आदेश' प्रस्तुत किया गया है, वह किस देश के एक विदेशी नागरिक पर सर्वोच्च सम्मान है?

Options :

1. ✖ यूनाईटेड अरब अमीरात
2. ✔ मालदीव
3. ✖ मॉरीशस
4. ✖ मलेशिया

Question Number : 71 Question Id : 54592724109 Question Type : MCQ Option Shuffling : Yes  
Correct Marks : 1 Wrong Marks : 0.25

Which of the following books is correctly matched with its author?

Options :

1. ✖ Oliver Twist - Daniel Defoe
2. ✔ The Adventures of Tom Sawyer - Mark Twain
3. ✖ Robinson Crusoe - Charles Dickens
4. ✖ The Da Vinci Code - Robert Frost

Question Number : 71 Question Id : 54592724109 Question Type : MCQ Option Shuffling : Yes  
Correct Marks : 1 Wrong Marks : 0.25

निम्नलिखित में से कौन सी पुस्तक का मिलान अपने लेखक से सही ढंग से किया गया है?

Options :

1. ✖ ओलिवर ट्विस्ट - डैनियल डेफो
2. ✔ द एडवेंचर्स ऑफ टॉम सॉयर - मार्क ट्वेन
3. ✖ रॉबिन्सन क्रूसो - चार्ल्स डिकेंस
4. ✖ द डा विंची कोड - रॉबर्ट फ्रॉस्ट

Question Number : 72 Question Id : 54592724110 Question Type : MCQ Option Shuffling : Yes  
Correct Marks : 1 Wrong Marks : 0.25

This institution was established in India in the year 1935 and its headquarters was originally in Kolkata, but was then shifted to Mumbai.

Who is the present head of this institution?

Options :

1. ✖ Viral Acharya
2. ✖ Urijit Patel
3. ✖ Raghuram Rajan
4. ✔ Shaktikanta Das

Question Number : 72 Question Id : 54592724110 Question Type : MCQ Option Shuffling : Yes

Correct Marks : 1 Wrong Marks : 0.25

इस संस्था की स्थापना भारत में वर्ष 1935 में हुई थी और इसका मुख्यालय मूल रूप से कोलकाता में था, लेकिन फिर इसे मुंबई स्थानांतरित कर दिया गया | इस संस्था के वर्तमान प्रमुख कौन हैं?

Options :

1. ✖ वायरल आचार्य
2. ✖ उर्जित पटेल
3. ✖ रघुराम राजन
4. ✔ शक्तिकांता दास

Question Number : 73 Question Id : 54592724111 Question Type : MCQ Option Shuffling : Yes

Correct Marks : 1 Wrong Marks : 0.25

Alfred Nobel, the person after whom the Nobel prize has been named is also known as the inventor of the \_\_\_\_\_.

Options :

1. ✖ Steam Engine
2. ✖ Electric bulb
3. ✔ Dynamite
4. ✖ Automobiles

Question Number : 73 Question Id : 54592724111 Question Type : MCQ Option Shuffling : Yes  
Correct Marks : 1 Wrong Marks : 0.25

अल्फ्रेड नोबेल, वह व्यक्ति जिनके नाम पर नोबेल पुरस्कार दिया गया है, उनको \_\_\_\_\_ के आविष्कारक के रूप में भी जाना जाता है।

Options :

1. \* स्टीम इंजन
2. \* इलेक्ट्रिक बल्ब
3. ✓ डायनामाइट
4. \* ऑटोमोबाइल्स

Question Number : 74 Question Id : 54592724112 Question Type : MCQ Option Shuffling : Yes  
Correct Marks : 1 Wrong Marks : 0.25

Which of the following articles of the Indian Constitution provides for the definition of "Money Bills"?

Options :

1. \* Article 108
2. ✓ Article 110
3. \* Article 112
4. \* Article 114

Question Number : 74 Question Id : 54592724112 Question Type : MCQ Option Shuffling : Yes  
Correct Marks : 1 Wrong Marks : 0.25

भारतीय संविधान के निम्नलिखित में से कौन सा अनुच्छेद " धन विधेयक" की परिभाषा प्रदान करता है?

Options :

1. \* अनुच्छेद 108
2. ✓ अनुच्छेद 110
3. \* अनुच्छेद 112
4. \* अनुच्छेद 114

Question Number : 75 Question Id : 54592724113 Question Type : MCQ Option Shuffling : Yes  
Correct Marks : 1 Wrong Marks : 0.25

Choose the correct statement out of the following with regards to the Right of Children to Free and Compulsory Education (RTE) Act, 2009.

Options :

1. ✖ It came into effect in the year 2012
2. ✖ It provides for the admission, attendance and completion of free and compulsory education by all children in the 6-18 years age group
3. ✖ It inserted the Article 21A in the Indian Constitution
4. ✔ 'Compulsory education' casts an obligation on the appropriate Government and local authorities

Question Number : 75 Question Id : 54592724113 Question Type : MCQ Option Shuffling : Yes  
Correct Marks : 1 Wrong Marks : 0.25

बच्चों

को निः शुल्क और अनिवार्य शिक्षा का अधिकार (आरटीई) अधिनियम, 2009 के संबंध में निम्नलिखित में से सही कथन चुनें।

Options :

1. ✖ यह वर्ष 2012 में लागू हुआ
2. ✖ यह 18 वर्ष आयु वर्ग के सभी बच्चों को निः शुल्क और अनिवार्य शिक्षा के लिए प्रवेश, उपस्थिति और समापन प्रदान करता है
3. ✖ इसने भारतीय संविधान में अनुच्छेद 21A डाला
4. ✔ 'अनिवार्य शिक्षा', उत्तरदायी सरकार और स्थानीय अधिकारियों पर एक दायित्व डालती है

Question Number : 76 Question Id : 54592724114 Question Type : MCQ Option Shuffling : Yes  
Correct Marks : 1 Wrong Marks : 0.25

Which of the following was introduced in the Constitution through the 91st Constitutional Amendment Act (2003)?

Options :

1. ✓ Council of Ministers shall not exceed 15 percent of total number of members of the House of the People (or Assembly, in the case of the States).

2. ✖ Right to Property deleted from the list of fundamental rights.

3. ✖ Voting age reduced from 21 to 18.

4. ✖ Introduction of Panchayati Raj by addition of Part IX to the Constitution.

Question Number : 76 Question Id : 54592724114 Question Type : MCQ Option Shuffling : Yes

Correct Marks : 1 Wrong Marks : 0.25

निम्नलिखित में से किसे

संविधान में 91 वें संवैधानिक संशोधन अधिनियम (2003) के माध्यम से पेश किया गया था?

Options :

1. ✓ मंत्रिपरिषद् के सदस्यों की संख्या लोक सभा (या राज्यों के मामले में विधानसभा) की कुल संख्या से 15 प्रतिशत से अधिक नहीं होगी।

2. ✖

3. ✖ मतदान की उम्र 21 से घटकर 18 हुई

4. ✖ संविधान में भाग IX के जुड़ने से पंचायती राज की प्रस्तावना।

Question Number : 77 Question Id : 54592724115 Question Type : MCQ Option Shuffling : Yes

Correct Marks : 1 Wrong Marks : 0.25

Find the incorrectly matched members of Independent India's Cabinet with the portfolios they held.

Options :

1. ✖ Maulana Abul Kalam Azad – Education

2. ✖ Jawaharlal Nehru – External Affairs and Commonwealth Relations

3. ✖ Dr. B. R. Ambedkar – Law



## 4. ✓ Vallabhbhai Patel – Food and Agriculture

Question Number : 77 Question Id : 54592724115 Question Type : MCQ Option Shuffling : Yes  
Correct Marks : 1 Wrong Marks : 0.25

स्वतंत्र भारत के मंत्रिमंडल के गलत तरीके से मिलान किए गए सदस्यों को उन विभागों के साथ खोजें जो उनके पास थे

Options :

1. \* मौलाना अबुल कलाम आज़ाद - शिक्षा
2. \* जवाहरलाल नेहरू - विदेश मंत्रालय और राष्ट्रमंडल संबंध
3. \* डॉ. बी. आर. अम्बेडकर - कानून
4. ✓ वल्लभ भाई पटेल - खाद्य और कृषि

Question Number : 78 Question Id : 54592724116 Question Type : MCQ Option Shuffling : Yes  
Correct Marks : 1 Wrong Marks : 0.25

(i)\_\_\_ is the captain of the Indian women's (ii)\_\_\_ team presently.

Options :

1. \* (i) Anjum Chopra (ii) Cricket
2. \* (i) Harshdeep Kaur (ii) Hockey
3. \* (i) Rani Rampal (ii) Football
4. ✓ (i) Vahbiz Bharucha (ii) Rugby

Question Number : 78 Question Id : 54592724116 Question Type : MCQ Option Shuffling : Yes  
Correct Marks : 1 Wrong Marks : 0.25

(i) \_\_\_ वर्तमान में भारतीय महिलाओं की (ii) \_\_\_\_\_ टीम की कप्तान हैं।

Options :

1. \* (i) अंजुम चोपड़ा (ii) क्रिकेट
2. \* (i) हर्षदीप कौर (ii) हॉकी
3. \* (i) रानी रामपाल (ii) फुटबॉल

4. ✓ (i) वाहबिज भरूचा (ii) रग्बी

Question Number : 79 Question Id : 54592724117 Question Type : MCQ Option Shuffling : Yes  
Correct Marks : 1 Wrong Marks : 0.25

Which of the following games was invented in India?

Options :

1. ✓ Chess
2. ✗ Football
3. ✗ Hockey
4. ✗ Cricket

Question Number : 79 Question Id : 54592724117 Question Type : MCQ Option Shuffling : Yes  
Correct Marks : 1 Wrong Marks : 0.25

भारत में निम्नलिखित में से किस खेल का आविष्कार किया गया था?

Options :

1. ✓ शतरंज
2. ✗ फुटबॉल
3. ✗ हॉकी
4. ✗ क्रिकेट

Question Number : 80 Question Id : 54592724118 Question Type : MCQ Option Shuffling : Yes  
Correct Marks : 1 Wrong Marks : 0.25

The FIFA World Cup 2018 was held in (i)\_\_\_\_\_ and the FIFA World Cup 2022 will be held in (ii)\_\_\_\_\_.

Options :

1. ✗ (i) Brazil, (ii) Russia
2. ✓ (i) Russia, (ii) Qatar
3. ✗ (i) Japan, (ii) South Africa
4. ✗ (i) Spain, (ii) Qatar

Question Number : 80 Question Id : 54592724118 Question Type : MCQ Option Shuffling : Yes  
Correct Marks : 1 Wrong Marks : 0.25

फीफा विश्व कप 2018 में (i) \_\_\_\_\_ में आयोजित किया गया था और फीफा विश्व कप 2022 में (ii) \_\_\_\_\_ में आयोजित किया जाएगा।

Options :

1. ✘ (i) ब्राजील, (ii) रूस
2. ✔ (i) रूस, (ii) कतर
3. ✘ (i) जापान, (ii) दक्षिण अफ्रीका
4. ✘ (i) स्पेन, (ii) कतर

## Arithmetic Ability1

Group Number :	5
Group Id :	5459271195
Group Maximum Duration :	0
Group Minimum Duration :	0
Show Attended Group? :	No
Edit Attended Group? :	No
Break time:	0
Group Marks:	20
Is this Group for Examiner? :	No
Revisit allowed for group Instructions? :	Yes
Maximum Instruction Time:	0
Minimum Instruction Time:	0

## Arithmetic Ability1

Section Id :	5459271195
Section Number :	1
Section type :	Online
Mandatory or Optional:	Mandatory
Number of Questions:	20
Number of Questions to be attempted:	20
Section Marks:	20

Sub-Section Number:	1
Sub-Section Id:	5459271433
Question Shuffling Allowed :	Yes

Correct Marks : 1 Wrong Marks : 0.25

**DIRECTION:** What should come in place of the question mark (?) in the following question?

$$\frac{34 \times 4 - 12 \times 8}{6^2 + \sqrt{196} + 11^2} = ?$$

Options :

1. ✘  $\frac{40}{121}$

2. ✘  $\frac{36}{171}$

3. ✘  $\frac{14}{171}$

4. ✔  $\frac{40}{171}$

Question Number : 81 Question Id : 54592724119 Question Type : MCQ Option Shuffling : Yes

Correct Marks : 1 Wrong Marks : 0.25

निर्देश: निम्नलिखित प्रश्न में प्रश्नवाचक चिन्ह (?) के स्थान पर क्या आना चाहिए?

$$\frac{34 \times 4 - 12 \times 8}{6^2 + \sqrt{196} + 11^2} = ?$$

Options :

1. ✘  $\frac{40}{121}$

2. ✘  $\frac{36}{171}$

3. ✖  $\frac{14}{171}$

4. ✔  $\frac{40}{171}$

Question Number : 82 Question Id : 54592724120 Question Type : MCQ Option Shuffling : Yes  
Correct Marks : 1 Wrong Marks : 0.25

What value will come in place of question mark (?) in the questions given below?

$$\sqrt{0.081 \times 0.324 \times 0.4096} = ?$$

Options :

1. ✔ 0.103

2. ✖ 0.205

3. ✖ 0.175

4. ✖ 0.192

Question Number : 82 Question Id : 54592724120 Question Type : MCQ Option Shuffling : Yes  
Correct Marks : 1 Wrong Marks : 0.25

निम्नलिखित प्रश्नों में प्रश्नवाचक चिन्ह (?) के स्थान पर क्या मान आएगा?

$$\sqrt{0.081 \times 0.324 \times 0.4096} = ?$$

Options :

1. ✔ 0.103

2. ✖ 0.205

3. ✖ 0.175

4. ✖ 0.192

Question Number : 83 Question Id : 54592724121 Question Type : MCQ Option Shuffling : Yes

Correct Marks : 1 Wrong Marks : 0.25

What should come in place of the question mark (?) in the following question?

$$3\frac{1}{2} + 1\frac{3}{4} + 1\frac{5}{8} = ?$$

Options :

1. ✘  $7\frac{1}{8}$

2. ✘  $6\frac{5}{8}$

3. ✔  $6\frac{7}{8}$

4. ✘  $5\frac{7}{8}$

Question Number : 83 Question Id : 54592724121 Question Type : MCQ Option Shuffling : Yes

Correct Marks : 1 Wrong Marks : 0.25

निम्नलिखित प्रश्न में प्रश्नवाचक चिन्ह (?) के स्थान पर क्या आना चाहिए?

$$3\frac{1}{2} + 1\frac{3}{4} + 1\frac{5}{8} = ?$$

Options :

1. ✘  $7\frac{1}{8}$

2. ✘  $6\frac{5}{8}$

3. ✔  $6\frac{7}{8}$

4. ✘  $5\frac{7}{8}$

Question Number : 84 Question Id : 54592724122 Question Type : MCQ Option Shuffling : Yes  
Correct Marks : 1 Wrong Marks : 0.25

What should come in place of the question mark (?) in the following question?

$$8 + 2\frac{1}{2} - 5\frac{1}{2} + \frac{3}{2}$$

Options :

1. ✘  $\frac{11}{2}$

2. ✔  $\frac{13}{2}$

3. ✘  $\frac{13}{4}$

4. ✘  $\frac{11}{5}$

Question Number : 84 Question Id : 54592724122 Question Type : MCQ Option Shuffling : Yes  
Correct Marks : 1 Wrong Marks : 0.25

निम्नलिखित प्रश्न में प्रश्नवाचक चिन्ह (?) के स्थान पर क्या आना चाहिए?

$$8 + 2\frac{1}{2} - 5\frac{1}{2} + \frac{3}{2}$$

Options :

1. ✘  $\frac{11}{2}$

2. ✔  $\frac{13}{2}$

3. ✘  $\frac{13}{4}$

4. ✘  $\frac{11}{5}$

Question Number : 85 Question Id : 54592724123 Question Type : MCQ Option Shuffling : Yes

Correct Marks : 1 Wrong Marks : 0.25

What should come in place of the question mark (?) in the following question?

$$225 + 63 \times 25 \div 5 - 8 = ?$$

Note: For this question, discrepancy is found in question/answer. So, this question is ignored for all candidates.

Options :

1. 1297

2. 1298

3. 1295

4. 1290



Question Number : 85 Question Id : 54592724123 Question Type : MCQ Option Shuffling : Yes

Correct Marks : 1 Wrong Marks : 0.25

निम्नलिखित प्रश्न में प्रश्नवाचक चिन्ह (?) के स्थान पर क्या आना चाहिए?

$$225 + 63 \times 25 \div 5 - 8 = ?$$

Note: For this question, discrepancy is found in question/answer. So, this question is ignored for all candidates.

Options :

1. 1297
2. 1298
3. 1295
4. 1290

Question Number : 86 Question Id : 54592724124 Question Type : MCQ Option Shuffling : Yes

Correct Marks : 1 Wrong Marks : 0.25

What should come in place of the question mark (?) in the following question?

$$2000 + 5000 - 600 (2 \times 5) = ? \times 500$$

Options :

1. \* 3
2. ✓ 2
3. \* 5
4. \* 6

Question Number : 86 Question Id : 54592724124 Question Type : MCQ Option Shuffling : Yes

Correct Marks : 1 Wrong Marks : 0.25

निम्नलिखित प्रश्न में प्रश्नवाचक चिन्ह (?) के स्थान पर क्या आना चाहिए?

$$2000 + 5000 - 600 (2 \times 5) = ? \times 500$$

Options :

1. \* 3

2. ✓ 2

3. \* 5

4. \* 6

Question Number : 87 Question Id : 54592724125 Question Type : MCQ Option Shuffling : Yes

Correct Marks : 1 Wrong Marks : 0.25

The difference of minimum and maximum 3 digit number which is exactly divisible by 24 and 36:

Note: For this question, discrepancy is found in question/answer. So, this question is ignored for all candidates.

Options :

1. 144

2. 692

3. 792

4. 576

Question Number : 87 Question Id : 54592724125 Question Type : MCQ Option Shuffling : Yes

Correct Marks : 1 Wrong Marks : 0.25

न्यूनतम और अधिकतम 3 अंकों की संख्याओं का योग जो कि 24 और 36 से बिल्कुल विभाज्य है:

Note: For this question, discrepancy is found in question/answer. So, this question is ignored for all candidates.

Options :

1. 144

2. 692

3. 792

4. 576

Question Number : 88 Question Id : 54592724126 Question Type : MCQ Option Shuffling : Yes  
Correct Marks : 1 Wrong Marks : 0.25

Total Number of prime factors of 540 are:

Options :

1. ✖ 15

2. ✔ 24

3. ✖ 16

4. ✖ 21

Question Number : 88 Question Id : 54592724126 Question Type : MCQ Option Shuffling : Yes  
Correct Marks : 1 Wrong Marks : 0.25

540 के कुल अभाज्य गुणनखंडों की संख्या है:

Options :

1. ✖ 15

2. ✔ 24

3. ✖ 16

4. ✖ 21

Question Number : 89 Question Id : 54592724127 Question Type : MCQ Option Shuffling : Yes  
Correct Marks : 1 Wrong Marks : 0.25

Find the least natural number that should be added to 26177 to make it divisible by 8.

Options :

1. ✖ 1

2. ✖ 3

3. ✖ 5

4. ✓ 7

Question Number : 89 Question Id : 54592724127 Question Type : MCQ Option Shuffling : Yes  
Correct Marks : 1 Wrong Marks : 0.25

वह छोटी से छोटी प्राकृतिक संख्या ज्ञात करें जिसे 26177 में जोड़ने पर प्राप्त संख्या 8 से पूरी तरह विभाजित हो?

Options :

1. ✗ 1

2. ✗ 3

3. ✗ 5

4. ✓ 7

Question Number : 90 Question Id : 54592724128 Question Type : MCQ Option Shuffling : Yes  
Correct Marks : 1 Wrong Marks : 0.25

Which of the following numbers is divisible by 72?

Options :

1. ✗ 11458

2. ✗ 11244

3. ✓ 11448

4. ✗ 12968

Question Number : 90 Question Id : 54592724128 Question Type : MCQ Option Shuffling : Yes  
Correct Marks : 1 Wrong Marks : 0.25

निम्नलिखित में से कौन सी संख्या 72 से विभाजित है?

Options :

1. ✗ 11458

2. ✗ 11244

3. ✓ 11448

4. ✗ 12968

Question Number : 91 Question Id : 54592724129 Question Type : MCQ Option Shuffling : Yes

Correct Marks : 1 Wrong Marks : 0.25

The average marks of the students of class A is 96. Some students of class A whose average marks are also 96 are transfer to class B and same number of students is transfer from B to A whose average marks are 48. As a result, the average marks of students of class A becomes 80. What fraction of students of class A are transfer?

Options :

1. ✘  $\frac{1}{4}$

2. ✘  $\frac{1}{2}$

3. ✔  $\frac{1}{3}$

4. ✘  $\frac{1}{5}$

Question Number : 91 Question Id : 54592724129 Question Type : MCQ Option Shuffling : Yes

Correct Marks : 1 Wrong Marks : 0.25

कक्षा A के छात्रों का औसत अंक 96 है। कक्षा A के कुछ छात्र जिनके औसत अंक भी 96 हैं, उन्हें कक्षा B में स्थानांतरित किया जाता है और समान संख्या में छात्रों को B से A में स्थानांतरित किया जाता है, जिनके औसत अंक 48 हैं। परिणामस्वरूप कक्षा A के छात्रों का औसत अंक 80 हो जाता है। कक्षा A के छात्रों का कितना भाग स्थानान्तरण होता है?

Options :

1. ✘  $\frac{1}{4}$

2. ✘  $\frac{1}{2}$

3. ✔  $\frac{1}{3}$

4. ✘  $\frac{1}{5}$

Question Number : 92 Question Id : 54592724130 Question Type : MCQ Option Shuffling : Yes  
Correct Marks : 1 Wrong Marks : 0.25

A shopkeeper gives 35 percent discount on the first shirt. On the second shirt, he first gives a 25 percent discount and when the customer insists, he gives an additional 5 percent discount. What is the difference in the selling price of two shirts if the marked price is Rs.780 per shirt?

Options :

1. ✘ Rs.42.5

2. ✘ Rs.44

3. ✔ Rs.48.75

4. ✘ Rs.49.25

Question Number : 92 Question Id : 54592724130 Question Type : MCQ Option Shuffling : Yes  
Correct Marks : 1 Wrong Marks : 0.25

एक दुकानदार पहली शर्ट पर 35 प्रतिशत की छूट देता है। दूसरे शर्ट पर, वह पहले 25 प्रतिशत की छूट देता है और जब ग्राहक जोर देता है, तो वह अतिरिक्त 5 प्रतिशत की छूट देता है। यदि प्रति शर्ट अंकित मूल्य ₹.780 है, तो दो शर्टों के विक्रय मूल्य में क्या अंतर है?

Options :

1. ✖ ₹.42.5
2. ✖ ₹.44
3. ✔ ₹.48.75
4. ✖ ₹.49.25

Question Number : 93 Question Id : 54592724131 Question Type : MCQ Option Shuffling : Yes  
Correct Marks : 1 Wrong Marks : 0.25

The average price of a mango, a banana, an orange and a papaya is Rs.3 more than the average price of a mango, a banana and an orange and Rs.5 more than the average price of a mango and a banana. The difference between the average price of an orange and a papaya and the price of an orange is:

Options :

1. ✖ Rs.8
2. ✔ Rs.4
3. ✖ Rs.16
4. ✖ Rs.1

Question Number : 93 Question Id : 54592724131 Question Type : MCQ Option Shuffling : Yes  
Correct Marks : 1 Wrong Marks : 0.25

एक आम, एक केला, एक नारंगी और एक पपीता का औसत मूल्य एक आम, एक केला और एक नारंगी के औसत मूल्य से रु.3 अधिक और एक आम और एक केले के औसत मूल्य से रु. 5 अधिक है। एक नारंगी और पपीते की औसत कीमत और एक नारंगी की कीमत के बीच का अंतर है?

Options :

1. ✖ रु.8
2. ✔ रु.4
3. ✖ रु.16
4. ✖ रु.1

Question Number : 94 Question Id : 54592724132 Question Type : MCQ Option Shuffling : Yes

Correct Marks : 1 Wrong Marks : 0.25

When the price of wheat per kg is increased by 25 percent, a family reduces its consumption in such a way that the total expenditure on wheat increases by only 20 percent. If the consumption of wheat by the family before the price increment is 30 kg then what would be the present consumption of wheat of the family?

Options :

1. ✖ 27.5 kg
2. ✔ 28.8 kg
3. ✖ 26.4 kg
4. ✖ 25.2 kg

Question Number : 94 Question Id : 54592724132 Question Type : MCQ Option Shuffling : Yes

Correct Marks : 1 Wrong Marks : 0.25



जब गेहूं की कीमत प्रति किलो 25 प्रतिशत बढ़ जाती है, तो एक परिवार अपनी खपत को इस तरह से कम कर देता है कि गेहूं पर कुल खर्च केवल 20 प्रतिशत बढ़ जाता है। यदि मूल्य वृद्धि से पहले परिवार द्वारा गेहूं की खपत 30 किलोग्राम है तो परिवार के गेहूं की वर्तमान खपत क्या होगी?

Options :

1. ✖ 27.5 किग्रा
2. ✔ 28.8 किग्रा
3. ✖ 26.4 किग्रा
4. ✖ 25.2 किग्रा

Question Number : 95 Question Id : 54592724133 Question Type : MCQ Option Shuffling : Yes

Correct Marks : 1 Wrong Marks : 0.25

The price of petrol is increased by 25 percent two times. If the price of petrol is increased by 10 percent, then by 18 percent and then by 22 percent. What is the difference of the resulting prices in the two cases if the initial price of petrol is Rs.120/ltr (approximately)?

Options :

1. ✔ Rs.2.5
2. ✖ Rs.3.2
3. ✖ Rs.1.8
4. ✖ Rs.1

Question Number : 95 Question Id : 54592724133 Question Type : MCQ Option Shuffling : Yes

Correct Marks : 1 Wrong Marks : 0.25

पेट्रोल की कीमत में दो बार 25 प्रतिशत की बढ़ोतरी हुई है। अगर पेट्रोल की कीमत पहले 10 प्रतिशत बढ़ जाती है, फिर 18 प्रतिशत बढ़ जाती है, और फिर 22 प्रतिशत बढ़ जाती है, तो दो मामलों में परिणामी कीमतों में क्या अंतर (लगभग) है यदि पेट्रोल की शुरुआती कीमत रु.120 / ली है,?

Options :

1. ✓ रु.2.5

2. ✗ रु.3.2

3. ✗ रु.1.8

4. ✗ रु.1

Question Number : 96 Question Id : 54592724134 Question Type : MCQ Option Shuffling : Yes

Correct Marks : 1 Wrong Marks : 0.25

The present value of car A is 67.5 percent of total present value of car A and car B. Depreciation is to be calculated annually at the rate of 12 percent and 15 percent on car A and car B respectively. At the end of two years, the total amount of depreciation is what percent of the total present value (approx)?

Options :

1. ✗ 21.8 percent

2. ✗ 23.5 percent

3. ✓ 24.25 percent

4. ✗ 25.5 percent

Question Number : 96 Question Id : 54592724134 Question Type : MCQ Option Shuffling : Yes

Correct Marks : 1 Wrong Marks : 0.25

कार A का वर्तमान मूल्य कार A और कार B के कुल वर्तमान मूल्य का 67.5 प्रतिशत है। मूल्यहास की गणना कार A और कार B पर क्रमशः 12 प्रतिशत और 15 प्रतिशत की दर से प्रतिवर्ष की जानी है। दो वर्षों के अंत में मूल्यहास की कुल राशि कुल वर्तमान मूल्य का कितना प्रतिशत (लगभग) है?

Options :

1. ✖ 21.8 प्रतिशत
2. ✖ 23.5 प्रतिशत
3. ✔ 24.25 प्रतिशत
4. ✖ 25.5 प्रतिशत

Question Number : 97 Question Id : 54592724135 Question Type : MCQ Option Shuffling : Yes

Correct Marks : 1 Wrong Marks : 0.25

A shopkeeper sells three products A, B and C. The selling prices of A, B and C are in the ratio 6 : 8 : 9 respectively. He makes  $28\frac{4}{7}\%$  profit,  $33\frac{1}{3}\%$  and 35% profit on selling A, B and C respectively. If the overall profit on selling three products is of Rs.85 What is the total selling?

Options :

1. ✔ Rs.345
2. ✖ Rs.415
3. ✖ Rs.260
4. ✖ Rs.320

Question Number : 97 Question Id : 54592724135 Question Type : MCQ Option Shuffling : Yes

Correct Marks : 1 Wrong Marks : 0.25

एक दुकानदार तीन उत्पादों A, B और C बेचता है। A, B और C के विक्रय मूल्य क्रमशः 6: 8: 9 के अनुपात में हैं। वह क्रमशः A, B और C बेचने पर  $28\frac{4}{7}\%$  लाभ,  $33\frac{1}{3}\%$  लाभ और 35% लाभ कमाता है। यदि तीन उत्पादों को बेचने पर कुल लाभ रु.85 है तो कुल बिक्री क्या है?

Options :

1. ✔ ₹.345
2. ✖ ₹.415

3. ✖ ₹.260

4. ✖ ₹.320

Question Number : 98 Question Id : 54592724136 Question Type : MCQ Option Shuffling : Yes

Correct Marks : 1 Wrong Marks : 0.25

A machine is assembled with of two parts A and B. The cost of A is 40 percent of the total cost of machine and cost of B is 25 percent of the total cost of machine. The machine is sold at a profit of 60 percent of the total cost. If the cost of part A is 12.5 percent higher and cost of part B is 30 percent higher while the selling price remain same, then what will be the profit percent?

Options :

1. ✖ 33.33 percent

2. ✓ 42.22 percent

3. ✖ 47.44 percent

4. ✖ 49.66 percent

Question Number : 98 Question Id : 54592724136 Question Type : MCQ Option Shuffling : Yes

Correct Marks : 1 Wrong Marks : 0.25

एक मशीन को दो भागों A और B के साथ निर्माण किया जाता है। A की लागत मशीन की कुल लागत का 40 प्रतिशत है और B की लागत मशीन की कुल लागत का 25 प्रतिशत है। मशीन को कुल लागत का 60 प्रतिशत लाभ पर बेचा जाता है। यदि भाग A की लागत 12.5 प्रतिशत अधिक है और भाग B की लागत 30 प्रतिशत अधिक है, जबकि विक्रय मूल्य समान रहता है, तो लाभ प्रतिशत क्या होगा?

Options :

1. ✖ 33.33 प्रतिशत

2. ✓ 42.22 प्रतिशत

3. \* 47.44 प्रतिशत

4. \* 49.66 प्रतिशत

Question Number : 99 Question Id : 54592724137 Question Type : MCQ Option Shuffling : Yes

Correct Marks : 1 Wrong Marks : 0.25

A shopkeeper by mistake marked the product at 10 percent above the cost price and gives 40 percent discount to his customer and incurred some loss. If the correct marked price is 40 percent above the cost price and correct discount is of 10 percent, he gains some profit. If the loss is Rs.240 more than the profit, then what is the cost price of the product?

Options :

1. \* Rs.2000

2. \* Rs.2400

3. \* Rs.2800

4. ✓ Rs.3000

Question Number : 99 Question Id : 54592724137 Question Type : MCQ Option Shuffling : Yes

Correct Marks : 1 Wrong Marks : 0.25

गलती से एक दुकानदार उत्पाद को लागत मूल्य से 10 प्रतिशत ऊपर चिह्नित करता है और अपने ग्राहक को 40 प्रतिशत छूट देता है तो उसे कुछ नुकसान होता है। यदि सही अंकित मूल्य लागत मूल्य से 40 प्रतिशत अधिक है और सही छूट 10 प्रतिशत है, तो वह कुछ लाभ प्राप्त करता है। यदि लाभ से नुकसान रु.240 अधिक है, तो उत्पाद की लागत मूल्य क्या है?

Options :

1. \* रु.2000

2. \* रु.2400

3. \* रु.2800

4. ✓ ₹.3000

Question Number : 100 Question Id : 54592724138 Question Type : MCQ Option Shuffling : Yes

Correct Marks : 1 Wrong Marks : 0.25

A person wanted distribute 180 chocolates to his three sons Sumit, Sunder and Shyam. He wanted chocolates to be distributed among Sumit, Sunder and Shyam in the ratio of 15 : 11 : 10. By mistake, he distribute in the ratio of 4 : 5 : 6. Find the extra chocolates received by Sunder.

Options :

1. ✗ 4

2. ✗ 3

3. ✓ 5

4. ✗ 6

Question Number : 100 Question Id : 54592724138 Question Type : MCQ Option Shuffling : Yes

Correct Marks : 1 Wrong Marks : 0.25

एक व्यक्ति अपने तीनों बेटों सुमित, सुंदर और श्याम को 180 चॉकलेट बांटना चाहता था। वह चाहता था कि चॉकलेट को सुमित, सुंदर और श्याम के बीच 15: 11: 10. के अनुपात में वितरित किया जाए। गलती से वह 4: 5: 6 के अनुपात में वितरित हो गया। सुंदर द्वारा प्राप्त अतिरिक्त चॉकलेट का पता लगाएं।

Options :

1. ✗ 4

2. ✗ 3

3. ✓ 5

4. ✗ 6

## Arithmetic Ability2

Group Number :	6
Group Id :	5459271196
Group Maximum Duration :	0
Group Minimum Duration :	0
Show Attended Group? :	No
Edit Attended Group? :	No
Break time:	0
Group Marks:	20
Is this Group for Examiner?:	No
Revisit allowed for group Instructions? :	Yes
Maximum Instruction Time:	0
Minimum Instruction Time:	0

## Arithmetic Ability2

Section Id :	5459271196
Section Number :	1
Section type :	Online
Mandatory or Optional:	Mandatory
Number of Questions:	20
Number of Questions to be attempted:	20
Section Marks:	20

Sub-Section Number:	1
Sub-Section Id:	5459271434
Question Shuffling Allowed :	Yes

Question Number : 101 Question Id : 54592724139 Question Type : MCQ Option Shuffling : Yes  
Correct Marks : 1 Wrong Marks : 0.25

A year ago the ratio of marks of A and B was 2 : 3. The ratios of the marks of last year to this year, in the case of A and B respectively, are 3 : 4 and 5 : 7. If this year the difference in their marks is 115, what is B's marks this year?

Options :

1. ✖ 210
2. ✔ 315
3. ✖ 259
4. ✖ 350

Question Number : 101 Question Id : 54592724139 Question Type : MCQ Option Shuffling : Yes

Correct Marks : 1 Wrong Marks : 0.25

एक साल पहले A और B के अंकों का अनुपात 2: 3 था। A और B के मामले में पिछले साल के अंकों का अनुपात इस वर्ष के अंकों से क्रमशः 3 : 4 और 5 : 7 हैं। यदि इस वर्ष उनके अंकों में अंतर 115 है, इस वर्ष B के अंक क्या हैं?

Options :

1. ✖ 210

2. ✔ 315

3. ✖ 259

4. ✖ 350

Question Number : 102 Question Id : 54592724140 Question Type : MCQ Option Shuffling : Yes

Correct Marks : 1 Wrong Marks : 0.25

There are two numbers  $m$  and  $n$ . If 4 is added to the  $m$  and 13 is subtracted from the  $n$ , then the ratio of  $m$  and  $n$  becomes 7 : 4. If 2 is subtracted from  $m$  and 8 is added to the  $n$ , then the ratio becomes 5 : 11. What is  $m : n$ ?

Options :

1. ✖ 15 : 23

2. ✖ 11 : 15

3. ✖ 19 : 29

4. ✔ 17 : 25

Question Number : 102 Question Id : 54592724140 Question Type : MCQ Option Shuffling : Yes

Correct Marks : 1 Wrong Marks : 0.25

दो संख्याएँ  $m$  और  $n$  हैं। यदि 4 को  $m$  से जोड़ा जाता है और 13 को  $n$  से घटाया जाता है, तो  $m$  और  $n$  का अनुपात 7: 4 हो जाता है। यदि 2 को  $m$  से घटाया जाता है और 8 को  $n$  में जोड़ दिया जाता है, तो अनुपात 5: 11. हो जाता है।  $m: n$  क्या हैं?

Options :



1. ✖ 15 : 23

2. ✖ 11 : 15

3. ✖ 19 : 29

4. ✔ 17 : 25

Question Number : 103 Question Id : 54592724141 Question Type : MCQ Option Shuffling : Yes

Correct Marks : 1 Wrong Marks : 0.25

Nitesh invested Rs.24000 at 15 percent per annum at compound interest compounded annually. Ravi invested an equal amount at 18 percent per annum at simple interest. How much less did Nitesh receive than Ravi after three years?

Options :

1. ✖ Rs.412

2. ✖ Rs.463

3. ✔ Rs.459

4. ✖ Rs.492

Question Number : 103 Question Id : 54592724141 Question Type : MCQ Option Shuffling : Yes

Correct Marks : 1 Wrong Marks : 0.25

नितेश ने सालाना चक्रवृद्धि ब्याज पर 15 प्रतिशत प्रति वर्ष की दर से रु. 24000 का निवेश किया। रवि ने साधारण ब्याज पर 18 प्रतिशत प्रति वर्ष की दर से बराबर राशि का निवेश किया। तीन साल बाद रवि से नितेश को कितना कम मिला?

Options :

1. ✖ रु.412

2. ✖ रु.463

3. ✔ रु.459

4. ✖ रु.492

Question Number : 104 Question Id : 54592724142 Question Type : MCQ Option Shuffling : Yes  
Correct Marks : 1 Wrong Marks : 0.25

An amount when invested at compound interest compounded annually at a rate of 20 percent per annum becomes Rs.24600 in three years. What it become after two years at same rate of compound interest?

Options :

1. ✖ Rs.18600
2. ✔ Rs.20500
3. ✖ Rs.21300
4. ✖ Rs.19200

Question Number : 104 Question Id : 54592724142 Question Type : MCQ Option Shuffling : Yes  
Correct Marks : 1 Wrong Marks : 0.25

20 प्रतिशत प्रति वर्ष की दर से चक्रवृद्धि ब्याज पर वार्षिक गणना से निवेश की जाने वाली राशि तीन वर्षों में रु.24600 हो जाती है।  
चक्रवृद्धि ब्याज की समान दर पर दो साल बाद यह क्या हो जाती है?

Options :

1. ✖ रु.18600
2. ✔ रु.20500
3. ✖ रु.21300
4. ✖ रु.19200

Question Number : 105 Question Id : 54592724143 Question Type : MCQ Option Shuffling : Yes  
Correct Marks : 1 Wrong Marks : 0.25

Vijay borrowed Rs.7500 from two banks A and B at simple interest. To bank A, he paid interest for two years at 5 percent p.a. and to bank B, he paid interest for two years at 7 percent p.a. The total interest that he paid for two years was Rs.825. The money borrowed from A is what percent more than that of B?

Options :

1. ✓ 200 percent
2. ✗ 300 percent
3. ✗ 33.33 percent
4. ✗ 25 percent

Question Number : 105 Question Id : 54592724143 Question Type : MCQ Option Shuffling : Yes

Correct Marks : 1 Wrong Marks : 0.25

विजय ने साधारण ब्याज पर दो बैंकों A और B से ₹.7500 उधार लिए। बैंक A के लिए, उसने दो साल के लिए 5 प्रतिशत प्रति वर्ष की दर पर ब्याज का भुगतान किया। और बैंक B के लिए, उसने दो साल के लिए 7 प्रतिशत प्रति वर्ष की दर पर ब्याज दिया। दो साल के लिए उसने कुल ब्याज ₹.825 दिया । A से उधार लिया गया धन B से कितने प्रतिशत अधिक है?

Options :

1. ✓ 200 प्रतिशत
2. ✗ 300 प्रतिशत
3. ✗ 33.33 प्रतिशत
4. ✗ 25 प्रतिशत

Question Number : 106 Question Id : 54592724144 Question Type : MCQ Option Shuffling : Yes

Correct Marks : 1 Wrong Marks : 0.25

If Amar travels at 60 km/h, he reaches his destination at 7 p.m. and if he increases his speed to 80 kmph he reaches one hour earlier. Find the distance he has to travel to reach his destination.

Options :

1. ✗ 120 km
2. ✗ 180 km

3. ✓ 240 km

4. ✗ 480 km

Question Number : 106 Question Id : 54592724144 Question Type : MCQ Option Shuffling : Yes

Correct Marks : 1 Wrong Marks : 0.25

यदि अमर 60 किमी प्रति घंटे की रफ्तार से यात्रा करता है, तो वह शाम 7 बजे अपने गंतव्य स्थान पर पहुंचता है। और यदि वह अपनी गति को 80 किमी प्रति घंटे तक बढ़ाता है तो वह एक घंटे पहले पहुंचता है। ज्ञात कीजिये उसे अपने गंतव्य स्थान तक पहुंचने में कितनी दूरी तय करनी पड़ेगी?

Options :

1. ✗ 120 किमी

2. ✗ 180 किमी

3. ✓ 240 किमी

4. ✗ 480 किमी

Question Number : 107 Question Id : 54592724145 Question Type : MCQ Option Shuffling : Yes

Correct Marks : 1 Wrong Marks : 0.25

The distance between X and Y is 1440 km. Two persons A and B started simultaneously from X towards Y. B took 6 hours less than A to reach Y. Instead, if A travels at twice his speed, he reaches Y 6 hours earlier than B. Find the speed of B (in km/h).

Options :

1. ✗ 56 km/hour

2. ✗ 60 km/hour

3. ✗ 64 km/hour

4. ✓ 80 km/hour

Question Number : 107 Question Id : 54592724145 Question Type : MCQ Option Shuffling : Yes

Correct Marks : 1 Wrong Marks : 0.25

X और Y के बीच की दूरी 1440 किमी है। दो व्यक्ति A और B एक साथ X से Y की ओर चलते हैं। B को Y पहुँचने में A से 6 घंटे कम समय लगा। उसके उपरान्त, यदि A अपनी गति से दुगुनी गति से यात्रा करता है, तो वह B से 6 घंटे पहले Y पहुंचता है। B की गति (किमी प्रति घंटे में) ज्ञात करें।

Options :

1. ✖ 56 किमी/घंटा
2. ✖ 60 किमी/घंटा
3. ✖ 64 किमी/घंटा
4. ✔ 80 किमी/घंटा

Question Number : 108 Question Id : 54592724146 Question Type : MCQ Option Shuffling : Yes

Correct Marks : 1 Wrong Marks : 0.25

A raft travels in a still water with a speed of 12 kmph while the rate of the flowing water is 4 kmph. Find the distance travelled against the direction of water by the raft in 15 minutes.

Options :

1. ✔ 2 km
2. ✖ 3 km
3. ✖ 4 km
4. ✖ 2.4 km

Question Number : 108 Question Id : 54592724146 Question Type : MCQ Option Shuffling : Yes

Correct Marks : 1 Wrong Marks : 0.25

एक राफ्ट स्थिर पानी में 12 किमी प्रति घंटा की गति से यात्रा करता है जबकि बहने वाले पानी की गति 4 किमी प्रति घंटा होती है। अनुप्रवाह(धारा की विपरीत दिशा में) में 15 मिनट में राफ्ट द्वारा तय की गयी दूरी ज्ञात करें।

Options :

1. ✓ 2 किमी
2. ✗ 3 किमी
3. ✗ 4 किमी
4. ✗ 2.4 किमी

Question Number : 109 Question Id : 54592724147 Question Type : MCQ Option Shuffling : Yes

Correct Marks : 1 Wrong Marks : 0.25

X men can complete a work in 120 days. If there were 10 men more the work would be completed in 20 days less. Find the value of X.

Options :

1. ✗ 75
2. ✓ 50
3. ✗ 90
4. ✗ 60

Question Number : 109 Question Id : 54592724147 Question Type : MCQ Option Shuffling : Yes

Correct Marks : 1 Wrong Marks : 0.25

X पुरुष 120 दिनों में एक काम पूरा कर सकते हैं। अगर 10 आदमी और अधिक होते तो काम को पूरा करने में 20 दिन समय कम लगता।

X का मान ज्ञात करें।

Options :

1. ✗ 75
2. ✓ 50
3. ✗ 90
4. ✗ 60

Question Number : 110 Question Id : 54592724148 Question Type : MCQ Option Shuffling : Yes

Correct Marks : 1 Wrong Marks : 0.25

A group of men are building a wall. After half the wall has been built, double the number of men join the original group. The wall gets completed 6 days earlier than scheduled. What is the total number of days the initial group of men would have taken to complete the wall?

Options :

1. ✖ 18
2. ✖ 16
3. ✖ 14
4. ✔ 12

Question Number : 110 Question Id : 54592724148 Question Type : MCQ Option Shuffling : Yes

Correct Marks : 1 Wrong Marks : 0.25

पुरुषों का एक समूह एक दीवार बना रहा है। आधी दीवार बन जाने के बाद, मूल समूह से दोगुने लोग जुड़ते हैं। दीवार निर्धारित समय से 6 दिन पहले पूरी हो जाती है। दीवार को पूरा करने के लिए पुरुषों के प्रारंभिक समूह ने कुल कितने दिनों का समय लिया होगा?

Options :

1. ✖ 18
2. ✖ 16
3. ✖ 14
4. ✔ 12

Question Number : 111 Question Id : 54592724149 Question Type : MCQ Option Shuffling : Yes

Correct Marks : 1 Wrong Marks : 0.25

Anil and Bharat can do a work in 20 days and 30 days respectively. If Anil, Bharat and Chetan can complete the same in 10 days, in how many days can Anil and Chetan complete the work?

Options :

1. ✖ 12

2. ✔ 15

3. ✖ 10

4. ✖ 9

Question Number : 111 Question Id : 54592724149 Question Type : MCQ Option Shuffling : Yes  
Correct Marks : 1 Wrong Marks : 0.25

अनिल और भरत एक कार्य क्रमशः 20 दिन और 30 दिन में कर सकते हैं। यदि अनिल, भरत और चेतन समान कार्य को 10 दिनों में पूरा करते हैं, तो अनिल और चेतन कार्य को कितने दिनों में पूरा कर सकते हैं?

Options :

1. ✖ 12

2. ✔ 15

3. ✖ 10

4. ✖ 9

Question Number : 112 Question Id : 54592724150 Question Type : MCQ Option Shuffling : Yes  
Correct Marks : 1 Wrong Marks : 0.25

A cylindrical can has a base of diameter 8 cm and height 14 cm. A cuboidal box has a square base of side 8 cm and the same height as the can. What is the difference between their volumes?

Options :

1. ✖  $216 \text{ cm}^3$

2. ✖  $196 \text{ cm}^3$

3. ✔  $192 \text{ cm}^3$



4. ✖  $200 \text{ cm}^3$

Question Number : 112 Question Id : 54592724150 Question Type : MCQ Option Shuffling : Yes  
Correct Marks : 1 Wrong Marks : 0.25

एक बेलनाकार कैन जिसके आधार का व्यास 8 से.मी. और उंचाई 14 से.मी. है। एक घनाभ्यय डिब्बा जिसके वर्गाकार आधार की भूजाएँ 8 से.मी. है और उसकी उंचाई कैन के समान है, तो उनके आयतन के बीच का अंतर कितना है?

Options :

1. ✖  $216 \text{ सेमी}^3$

2. ✖  $196 \text{ सेमी}^3$

3. ✓  $192 \text{ सेमी}^3$

4. ✖  $200 \text{ सेमी}^3$

Question Number : 113 Question Id : 54592724151 Question Type : MCQ Option Shuffling : Yes  
Correct Marks : 1 Wrong Marks : 0.25

Two goats are each tied to two adjacent corners of a square plot of side 28 m with ropes 14 m long. Find the area not grazed by the goats in the plot.

Options :

1. ✖ 450 sq.m.

2. ✖ 460 sq.m.

3. ✓ 476 sq.m.

4. ✖ 490 sq.m.

Question Number : 113 Question Id : 54592724151 Question Type : MCQ Option Shuffling : Yes  
Correct Marks : 1 Wrong Marks : 0.25

दो बकरियों में, प्रत्येक को 28 मीटर के चौकोर भूखंड के दो समीपवर्ती कोनों में 14 मीटर लंबी रस्सियों से बांधा जाता है। बकरियों द्वारा भूखंड का नहीं चरने वाला क्षेत्रफल ज्ञात कीजिए।

Options :

1. ✖ 450 sq.m.
2. ✖ 460 sq.m.
3. ✔ 476 sq.m.
4. ✖ 490 sq.m.

Question Number : 114 Question Id : 54592724152 Question Type : MCQ Option Shuffling : Yes

Correct Marks : 1 Wrong Marks : 0.25

Two circles of radii 9 cm and 4 cm touch each other externally. Find the length of their direct common tangent.

Options :

1. ✖ 15 cm
2. ✖ 20 cm
3. ✔ 12 cm
4. ✖ 18 cm

Question Number : 114 Question Id : 54592724152 Question Type : MCQ Option Shuffling : Yes

Correct Marks : 1 Wrong Marks : 0.25

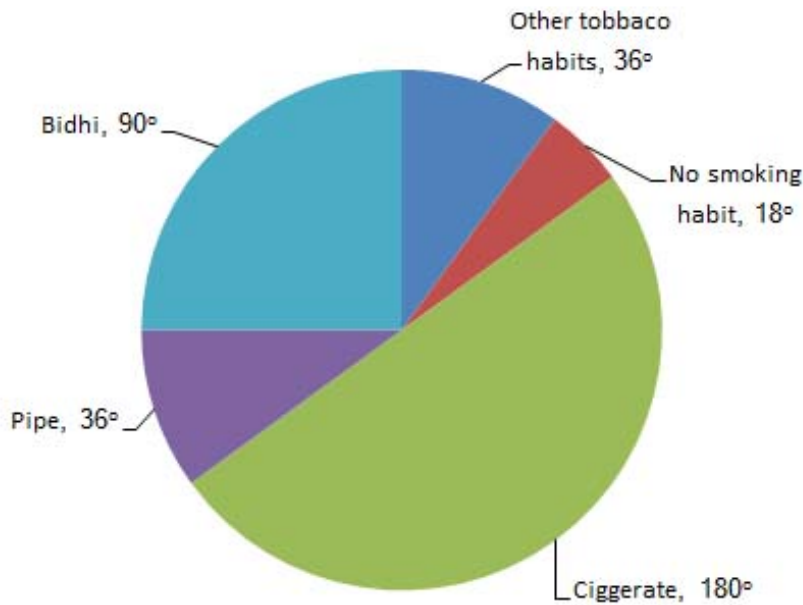
9 सेमी और 4 सेमी त्रिज्या के दो वृत्त एक दूसरे को बाहरी रूप से स्पर्श करते हैं। उनकी सीधी सामान्य स्पर्शरेखा की लंबाई ज्ञात कीजिए।

Options :

1. ✖ 15 सेमी
2. ✖ 20 सेमी
3. ✔ 12 सेमी
4. ✖ 18 सेमी

Question Number : 115 Question Id : 54592724153 Question Type : MCQ Option Shuffling : Yes  
Correct Marks : 1 Wrong Marks : 0.25

The Pie-chart shows the result of a survey among 123060 people concerning the use of tobacco. Study the Pie-chart and answer the question.



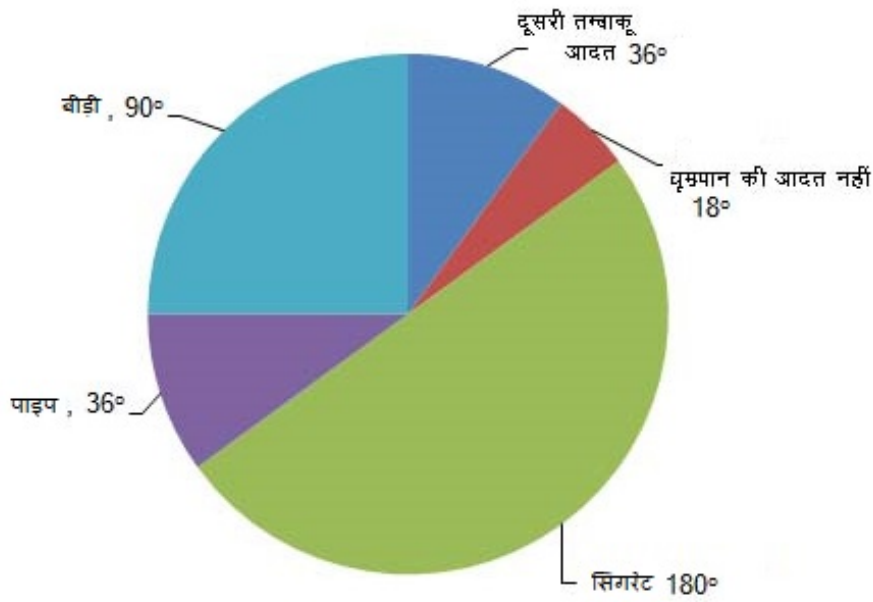
Percentage of people under survey, who do not have any smoking habit is:

Options :

1. ✘ 7.5 percent
2. ✘ 10 percent
3. ✔ 5 percent
4. ✘ 5.2 percent

Question Number : 115 Question Id : 54592724153 Question Type : MCQ Option Shuffling : Yes  
Correct Marks : 1 Wrong Marks : 0.25

पार्इ-चार्ट में तम्बाकू का सेवन करने से संबद्ध 123060 लोगों के सर्वेक्षण से प्राप्त परिणाम को दर्शाया गया है। पार्इ-चार्ट का अध्ययन कीजिए और प्रश्नों के उत्तर दीजिए।



सर्वेक्षण के अधीन ऐसे लोगों का प्रतिशत क्या है जिन्हें किसी भी प्रकार के धूम्रपान की आदत नहीं है?

Options :

- ✘ 7.5 प्रतिशत
- ✘ 10 प्रतिशत
- ✔ 5 प्रतिशत
- ✘ 5.2 प्रतिशत

Question Number : 116 Question Id : 54592724154 Question Type : MCQ Option Shuffling : Yes Correct Marks : 1 Wrong Marks : 0.25

Refer the below data table and answer the following question.

	Weight (kg)	Height (m)
Archita	67	1.63
Arpana	67	1.51
Arpita	57	1.56
Arundhati	73	1.59

Who has the least weight to height ratio?

Options :

1. ✖ Archita
2. ✖ Arpana
3. ✔ Arpita
4. ✖ Arundhati

Question Number : 116 Question Id : 54592724154 Question Type : MCQ Option Shuffling : Yes

Correct Marks : 1 Wrong Marks : 0.25

नीचे दिये गए डेटा तालिका के आधार पर निम्नलिखित प्रश्न का उत्तर दें।

	वजन (किलोग्राम)	ऊँचाई (मीटर)
(अर्चिता)	67	1.63
(अर्पणा)	67	1.51
(अर्पिता)	57	1.56
(अरुन्धती)	73	1.59

वजन और ऊँचाई का अनुपात किसका सबसे कम है?

Options :

1. ✖ अर्चिता
2. ✖ अर्पणा

3. ✓ अर्पिता

4. ✗ अरुन्धती

Question Number : 117 Question Id : 54592724155 Question Type : MCQ Option Shuffling : Yes

Correct Marks : 1 Wrong Marks : 0.25

Study the following table carefully to answer these questions:

Population of 6 states over the years						
Year	State					
	A	B	C	D	E	F
1992	125	210	85	150	98	138
1995	135	225	89	170	110	152
1998	142	240	93	180	130	160
2001	148	250	99	215	140	175
2004	155	270	105	230	145	190
2007	160	290	110	240	160	198

Which state had the highest per cent rise in population from 2001 to 2004?

Options :

1. ✗ C

2. ✗ B

3. ✗ D

4. ✓ F

Question Number : 117 Question Id : 54592724155 Question Type : MCQ Option Shuffling : Yes

Correct Marks : 1 Wrong Marks : 0.25

निम्नलिखित प्रश्नों का उत्तर देने के लिए सावधानीपूर्वक निम्नलिखित तालिका का अध्ययन करें।

दिए गए वर्षों में 6 राज्यों की जनसंख्या हजार में						
वर्ष	राज्य					
	A	B	C	D	E	F
1992	125	210	85	150	98	138
1995	135	225	89	170	110	152
1998	142	240	93	180	130	160
2001	148	250	99	215	140	175
2004	155	270	105	230	145	190
2007	160	290	110	240	160	198

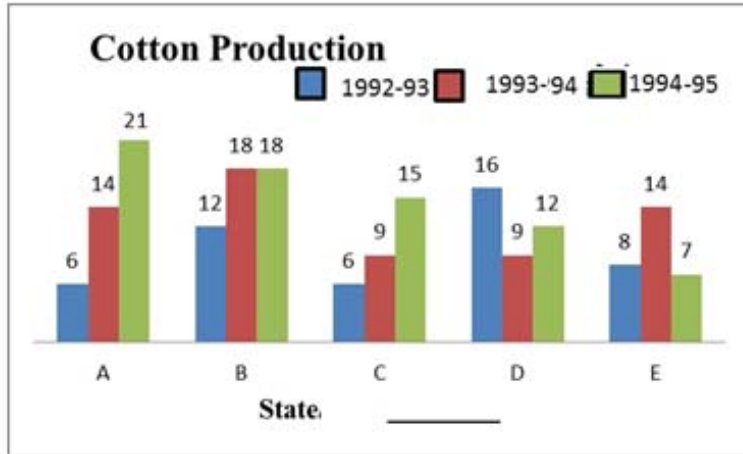
2001 से 2004 तक जनसंख्या में किस राज्य की सर्वोच्च वृद्धि हुई थी?

Options :

1. ✘ C
2. ✘ B
3. ✘ D
4. ✔ F

Question Number : 118 Question Id : 54592724156 Question Type : MCQ Option Shuffling : Yes  
Correct Marks : 1 Wrong Marks : 0.25

Study the graph carefully and answer the following questions.



The production of State D in 1992-93 is how many times its production in 1994-95?

Options :

1. ✓ 1.33

2. ✗ 0.75

3. ✗ 0.56

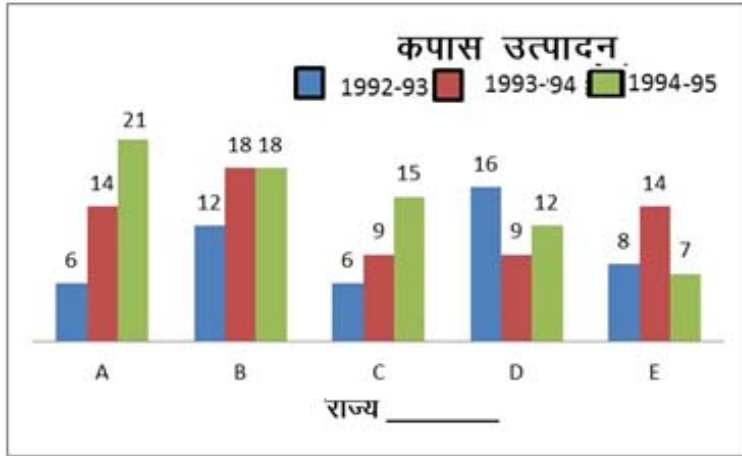
4. ✗ 1.77

Question Number : 118 Question Id : 54592724156 Question Type : MCQ Option Shuffling : Yes

Correct Marks : 1 Wrong Marks : 0.25



दिए गये ग्राफ को ध्यान पूर्वक पढ़कर उत्तर दें:



राज्य D का वर्ष 1992-93 का उत्पादन, वर्ष 1994-95 के उत्पादन का कितने गुना है।

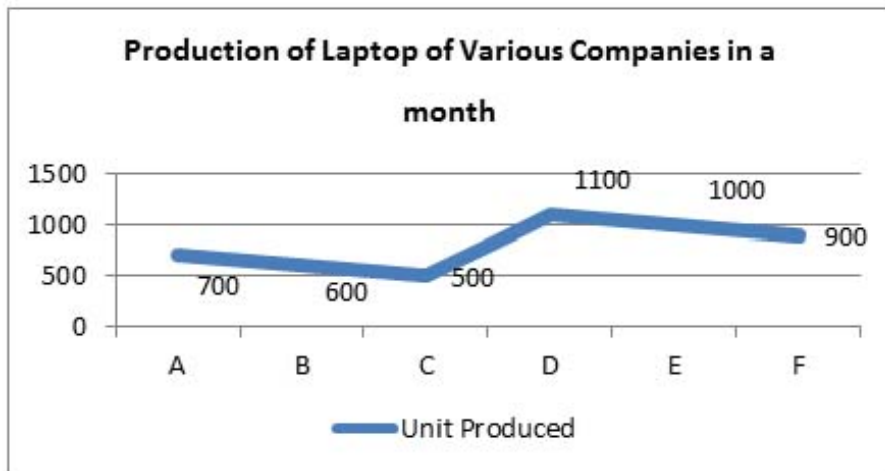
Options :

1. ✓ 1.33
2. ✗ 0.75
3. ✗ 0.56
4. ✗ 1.77

Question Number : 119 Question Id : 54592724157 Question Type : MCQ Option Shuffling : Yes

Correct Marks : 1 Wrong Marks : 0.25

Study the following graph carefully to answer the question that follow:



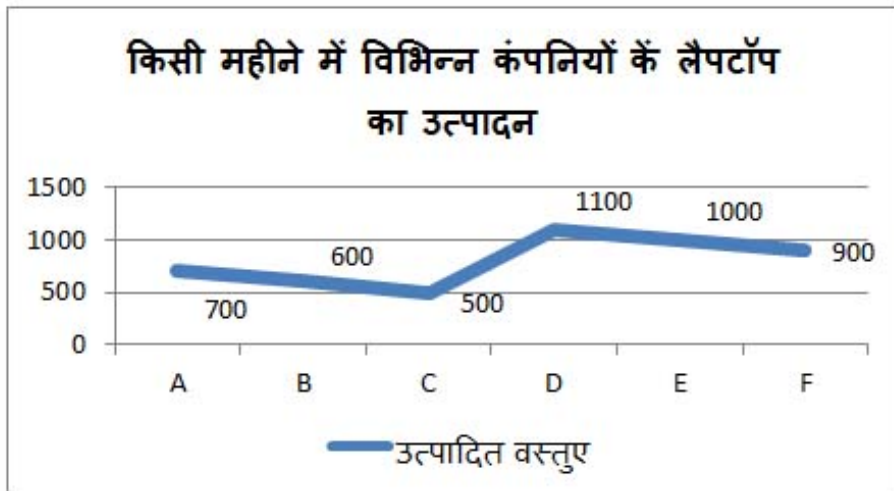
What is the average number of Units produced by all the Companies together?

Options :

1. ✘ 725
2. ✔ 800
3. ✘ 720
4. ✘ 900

Question Number : 119 Question Id : 54592724157 Question Type : MCQ Option Shuffling : Yes Correct Marks : 1 Wrong Marks : 0.25

निम्नलिखित ग्राफ का ध्यान से अध्ययन कर नीचे दिए गए प्रश्नों के उत्तर दीजिये।



सभी कंपनियों के द्वारा कुल उत्पादन का औसत क्या है?

Options :

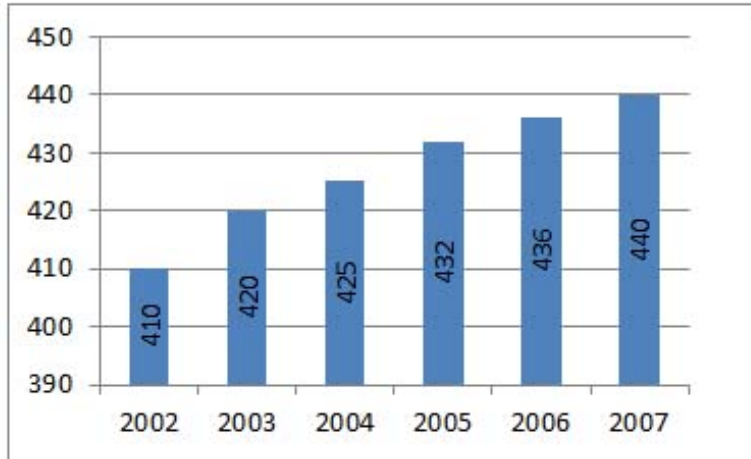
1. ✘ 725
2. ✔ 800
3. ✘ 720
4. ✘ 900

Question Number : 120 Question Id : 54592724158 Question Type : MCQ Option Shuffling : Yes

Correct Marks : 1 Wrong Marks : 0.25

Study the following chart carefully to answer these questions:

The following graph represents Populations (in thousands) of the State over the years



What is the approximate average population of state for all the years together?

Options :

1. ✖ 425202

2. ✔ 427167

3. ✖ 527304

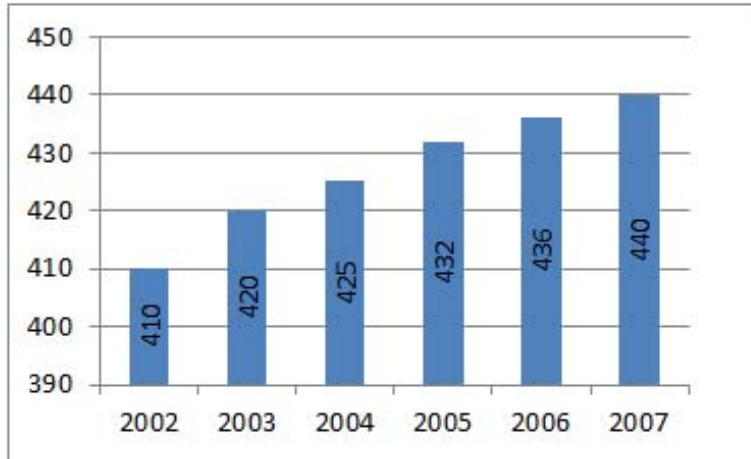
4. ✖ 62803

Question Number : 120 Question Id : 54592724158 Question Type : MCQ Option Shuffling : Yes

Correct Marks : 1 Wrong Marks : 0.25

निम्नलिखित प्रश्नों का उत्तर देने के लिए सावधानी पूर्वक ग्राफ का अध्ययन करें।

निम्नलिखित ग्राफ दिए गए वर्षों में राज्य की जनसँख्या (हजार में) को दर्शाता है।



सभी वर्षों में राज्य की कुल जनसँख्या का लगभग औसत क्या है?

Options :

1. ✘ 425202
2. ✔ 427167
3. ✘ 527304
4. ✘ 62803

## General English1

Group Number :	7
Group Id :	5459271197
Group Maximum Duration :	0
Group Minimum Duration :	0
Show Attended Group? :	No

Edit Attended Group? :	No
Break time:	0
Group Marks:	20
Is this Group for Examiner?:	No
Revisit allowed for group Instructions? :	Yes
Maximum Instruction Time:	0
Minimum Instruction Time:	0

## General English1

Section Id :	5459271197
Section Number :	1
Section type :	Online
Mandatory or Optional:	Mandatory
Number of Questions:	20
Number of Questions to be attempted:	20
Section Marks:	20

Sub-Section Number:	1
Sub-Section Id:	5459271435
Question Shuffling Allowed :	Yes

Question Number : 121 Question Id : 54592724159 Question Type : MCQ Option Shuffling : Yes  
Correct Marks : 1 Wrong Marks : 0.25

The following sentence has been divided into three parts. One of them may be incorrect. Choose the INCORRECT part from the given options. If you don't find any error, mark 'No error' as your answer.

The State governments at partnership / with the Centre, must use the funds / to transform primary health care.

Options :

1. ✓ The State governments at partnership
2. ✗ with the Centre, must use the funds
3. ✗ to transform primary health care.
4. ✗ No error

Question Number : 121 Question Id : 54592724159 Question Type : MCQ Option Shuffling : Yes  
Correct Marks : 1 Wrong Marks : 0.25

The following sentence has been divided into three parts. One of them may be incorrect. Choose the INCORRECT part from the given options. If you don't find any error, mark 'No error' as your answer.

The State governments at partnership / with the Centre, must use the funds / to transform primary health care.

Options :

1. ✓ The State governments at partnership
2. ✗ with the Centre, must use the funds
3. ✗ to transform primary health care.
4. ✗ No error

Question Number : 122 Question Id : 54592724160 Question Type : MCQ Option Shuffling : Yes  
Correct Marks : 1 Wrong Marks : 0.25

The following sentence has been divided into three parts. One of them may be incorrect. Choose the INCORRECT part from the given options. If you don't find any error, mark 'No error' as your answer.

The failure to get an antibiotic / if you have a bacterial infection / can hurt you very bad.

Options :

1. ✗ The failure to get an antibiotic
2. ✗ if you have a bacterial infection
3. ✓ can hurt you very bad.
4. ✗ No error

Question Number : 122 Question Id : 54592724160 Question Type : MCQ Option Shuffling : Yes

Correct Marks : 1 Wrong Marks : 0.25

The following sentence has been divided into three parts. One of them may be incorrect. Choose the INCORRECT part from the given options. If you don't find any error, mark 'No error' as your answer.

The failure to get an antibiotic / if you have a bacterial infection / can hurt you very bad.

Options :

1. ✘ The failure to get an antibiotic
2. ✘ if you have a bacterial infection
3. ✔ can hurt you very bad.
4. ✘ No error

Question Number : 123 Question Id : 54592724161 Question Type : MCQ Option Shuffling : Yes

Correct Marks : 1 Wrong Marks : 0.25

The following sentence has been divided into three parts. One of them may be incorrect. Choose the INCORRECT part from the given options. If you don't find any error, mark 'No error' as your answer.

At the end of the day, / cinema ought to helped us / recognize characters as fellow human beings.

Options :



1. ✖ At the end of the day,
2. ✔ cinema ought to helped us
3. ✖ recognize characters as fellow human beings.
4. ✖ No error

Question Number : 123 Question Id : 54592724161 Question Type : MCQ Option Shuffling : Yes  
Correct Marks : 1 Wrong Marks : 0.25

The following sentence has been divided into three parts. One of them may be incorrect. Choose the INCORRECT part from the given options. If you don't find any error, mark 'No error' as your answer.

At the end of the day, / cinema ought to helped us / recognize characters as fellow human beings.

Options :

1. ✖ At the end of the day,
2. ✔ cinema ought to helped us
3. ✖ recognize characters as fellow human beings.
4. ✖ No error

Question Number : 124 Question Id : 54592724162 Question Type : MCQ Option Shuffling : Yes  
Correct Marks : 1 Wrong Marks : 0.25

The following sentence has been divided into three parts. One of them may be incorrect. Choose the INCORRECT part from the given options. If you don't find any error, mark 'No error' as your answer.

The report tells us that / at the end of the year 2016, / there were 4, 33,033 people in prison.

Options :

1. ✖ The report tells us that
2. ✖ at the end of the year 2016,
3. ✖ there were 4, 33,033 people in prison.
4. ✔ No error

Question Number : 124 Question Id : 54592724162 Question Type : MCQ Option Shuffling : Yes  
Correct Marks : 1 Wrong Marks : 0.25

The following sentence has been divided into three parts. One of them may be incorrect. Choose the INCORRECT part from the given options. If you don't find any error, mark 'No error' as your answer.

The report tells us that / at the end of the year 2016, / there were 4, 33,033 people in prison.

Options :

1. ✖ The report tells us that

2. ✖ at the end of the year 2016,
3. ✖ there were 4, 33,033 people in prison.
4. ✔ No error

Question Number : 125 Question Id : 54592724163 Question Type : MCQ Option Shuffling : Yes  
Correct Marks : 1 Wrong Marks : 0.25

The following sentence has been divided into three parts. One of them may be incorrect. Choose the INCORRECT part from the given options. If you don't find any error, mark 'No error' as your answer.

Chennai's hope to be a global / economic hub appears to be / considerable weak as it struggles to find water.

Options :

1. ✖ Chennai's hope to be a global
2. ✖ economic hub appears to be
3. ✔ considerable weak as it struggles to find water.
4. ✖ No error

Question Number : 125 Question Id : 54592724163 Question Type : MCQ Option Shuffling : Yes  
Correct Marks : 1 Wrong Marks : 0.25

The following sentence has been divided into three parts. One of them may be incorrect. Choose the INCORRECT part from the given options. If you don't find any error, mark 'No error' as your answer.

Chennai's hope to be a global / economic hub appears to be / considerable weak as it struggles to find water.

Options :

1. ✖ Chennai's hope to be a global
2. ✖ economic hub appears to be
3. ✔ considerable weak as it struggles to find water.
4. ✖ No error

Question Number : 126 Question Id : 54592724164 Question Type : MCQ Option Shuffling : Yes  
Correct Marks : 1 Wrong Marks : 0.25

Select the most appropriate option to substitute the underlined segment in the given sentence. If there is no need to substitute it, select option No substitution required.

When you combine smart thinking with even smarter technology to make big changes - good things happen.

Options :

1. ✖ good things happens
2. ✖ good things happening

3. ✖ good things happened

4. ✔ No substitution required

Question Number : 126 Question Id : 54592724164 Question Type : MCQ Option Shuffling : Yes

Correct Marks : 1 Wrong Marks : 0.25

Select the most appropriate option to substitute the underlined segment in the given sentence. If there is no need to substitute it, select option No substitution required.

When you combine smart thinking with even smarter technology to make big changes - good things happen.

Options :

1. ✖ good things happens

2. ✖ good things happening

3. ✖ good things happened

4. ✔ No substitution required

Question Number : 127 Question Id : 54592724165 Question Type : MCQ Option Shuffling : Yes

Correct Marks : 1 Wrong Marks : 0.25

Select the most appropriate option to substitute the underlined segment in the given sentence. If there is no need to substitute it, select option No substitution required.

A common hazardous waste facility is one that stores the material in sealed containers of the ground.

Options :

1. ✓ sealed containers on the ground
2. ✗ seal containers off the ground
3. ✗ sealed containers at the ground
4. ✗ No substitution required

Question Number : 127 Question Id : 54592724165 Question Type : MCQ Option Shuffling : Yes  
Correct Marks : 1 Wrong Marks : 0.25

Select the most appropriate option to substitute the underlined segment in the given sentence. If there is no need to substitute it, select option No substitution required.

A common hazardous waste facility is one that stores the material in sealed containers of the ground.

Options :

1. ✓ sealed containers on the ground
2. ✗ seal containers off the ground
3. ✗ sealed containers at the ground
4. ✗ No substitution required

Question Number : 128 Question Id : 54592724166 Question Type : MCQ Option Shuffling : Yes  
Correct Marks : 1 Wrong Marks : 0.25

Select the most appropriate option to substitute the underlined segment in the given sentence. If there is no need to substitute it, select option No substitution required.

The Superfund program was launched at response off a series of high-profile toxic waste cases in the 1970s.

Options :

1. ✖ in response of
2. ✖ response to
3. ✔ in response to
4. ✖ No substitution required

Question Number : 128 Question Id : 54592724166 Question Type : MCQ Option Shuffling : Yes  
Correct Marks : 1 Wrong Marks : 0.25

Select the most appropriate option to substitute the underlined segment in the given sentence. If there is no need to substitute it, select option No substitution required.

The Superfund program was launched at response off a series of high-profile toxic waste cases in the 1970s.

Options :

1. ✖ in response of
2. ✖ response to
3. ✔ in response to

#### 4. ✖ No substitution required

Question Number : 129 Question Id : 54592724167 Question Type : MCQ Option Shuffling : Yes  
Correct Marks : 1 Wrong Marks : 0.25

Select the most appropriate option to substitute the underlined segment in the given sentence. If there is no need to substitute it, select option No substitution required.

These teeth belong to animals that feed on plants, the leaves, branches, and stems which often require a lot of chewing before they can be digested.

Options :

1. ✖ that often requires a
2. ✖ often require an
3. ✖ which often requires a
4. ✔ No substitution required

Question Number : 129 Question Id : 54592724167 Question Type : MCQ Option Shuffling : Yes  
Correct Marks : 1 Wrong Marks : 0.25

Select the most appropriate option to substitute the underlined segment in the given sentence. If there is no need to substitute it, select option No substitution required.

These teeth belong to animals that feed on plants, the leaves, branches, and stems which often require a lot of chewing before they can be digested.

Options :



1. ✖ that often requires a
2. ✖ often require an
3. ✖ which often requires a
4. ✔ No substitution required

Question Number : 130 Question Id : 54592724168 Question Type : MCQ Option Shuffling : Yes  
Correct Marks : 1 Wrong Marks : 0.25

Select the most appropriate option to substitute the underlined segment in the given sentence. If there is no need to substitute it, select option No substitution required.

The two dozen species of crocodiles alive today inhabit lakes, rivers, and occasionally seashores, where it most feeds at meat and fish.

Options :

1. ✔ they mostly feed on
2. ✖ its most feed on
3. ✖ they mostly feed at
4. ✖ No substitution required

Question Number : 130 Question Id : 54592724168 Question Type : MCQ Option Shuffling : Yes  
Correct Marks : 1 Wrong Marks : 0.25

Select the most appropriate option to substitute the underlined segment in the given sentence. If there is no need to substitute it, select option No substitution required.

The two dozen species of crocodiles alive today inhabit lakes, rivers, and occasionally seashores, where it most feeds at meat and fish.

Options :

1. ✓ they mostly feed on
2. ✗ its most feed on
3. ✗ they mostly feed at
4. ✗ No substitution required

Question Number : 131 Question Id : 54592724169 Question Type : MCQ Option Shuffling : Yes

Correct Marks : 1 Wrong Marks : 0.25

Select the most appropriate word to fill in the blank.

The right to a healthy environment is now considered legally \_\_\_\_\_ around the world.

Options :

1. ✓ established
2. ✗ establish

3. ✖ establishes

4. ✖ establishing

Question Number : 131 Question Id : 54592724169 Question Type : MCQ Option Shuffling : Yes

Correct Marks : 1 Wrong Marks : 0.25

Select the most appropriate word to fill in the blank.

The right to a healthy environment is now considered legally \_\_\_\_\_ around the world.

Options :

1. ✔ established

2. ✖ establish

3. ✖ establishes

4. ✖ establishing

Question Number : 132 Question Id : 54592724170 Question Type : MCQ Option Shuffling : Yes

Correct Marks : 1 Wrong Marks : 0.25

Select the most appropriate word to fill in the blank.

The state of Uttar Pradesh declared a mining ban \_\_\_\_\_ its rivers can recharge their sandy principal.

Options :

1. ✖ yet

2. ✔ until

3. ✖ since

4. ✖ for

Question Number : 132 Question Id : 54592724170 Question Type : MCQ Option Shuffling : Yes  
Correct Marks : 1 Wrong Marks : 0.25

Select the most appropriate word to fill in the blank.

The state of Uttar Pradesh declared a mining ban \_\_\_\_\_  
its rivers can recharge their sandy principal.

Options :

1. ✘ yet
2. ✔ until
3. ✘ since
4. ✘ for

Question Number : 133 Question Id : 54592724171 Question Type : MCQ Option Shuffling : Yes  
Correct Marks : 1 Wrong Marks : 0.25

Select the most appropriate word to fill in the blank.

As night falls, the sky \_\_\_\_\_, giving stargazers a glimpse of  
infinity and beyond.

Options :

1. ✘ light up
2. ✘ lit up
3. ✔ lights up
4. ✘ lits up

Question Number : 133 Question Id : 54592724171 Question Type : MCQ Option Shuffling : Yes  
Correct Marks : 1 Wrong Marks : 0.25

Select the most appropriate word to fill in the blank.

As night falls, the sky \_\_\_\_\_, giving stargazers a glimpse of infinity and beyond.

Options :

1. ✖ light up
2. ✖ lit up
3. ✔ lights up
4. ✖ lits up

Question Number : 134 Question Id : 54592724172 Question Type : MCQ Option Shuffling : Yes

Correct Marks : 1 Wrong Marks : 0.25

Select the most appropriate word to fill in the blank.

The bigger mouths and fangs of the snake help them eat larger prey \_\_\_\_\_ their siblings.

Options :

1. ✖ include
2. ✖ inclusive
3. ✖ included
4. ✔ including

Question Number : 134 Question Id : 54592724172 Question Type : MCQ Option Shuffling : Yes

Correct Marks : 1 Wrong Marks : 0.25

Select the most appropriate word to fill in the blank.

The bigger mouths and fangs of the snake help them eat larger prey \_\_\_\_\_ their siblings.

Options :

1. ✖ include
2. ✖ inclusive
3. ✖ included
4. ✔ including

Question Number : 135 Question Id : 54592724173 Question Type : MCQ Option Shuffling : Yes  
Correct Marks : 1 Wrong Marks : 0.25

Select the most appropriate word to fill in the blank.

In the era of global warming and climate change, Norway \_\_\_\_\_ the charge towards renewable energy.

Options :

1. ✔ has led
2. ✖ is lead
3. ✖ have lead
4. ✖ had been lead

Question Number : 135 Question Id : 54592724173 Question Type : MCQ Option Shuffling : Yes  
Correct Marks : 1 Wrong Marks : 0.25

Select the most appropriate word to fill in the blank.

In the era of global warming and climate change, Norway \_\_\_\_\_ the charge towards renewable energy.

Options :

1. ✓ has led
2. ✗ is lead
3. ✗ have lead
4. ✗ had been lead

Question Number : 136 Question Id : 54592724174 Question Type : MCQ Option Shuffling : Yes

Correct Marks : 1 Wrong Marks : 0.25

Select the most appropriate word to fill in the blank.

In recent years an impressive number of start-ups and innovators \_\_\_\_\_ new technologies.

Options :

1. ✗ employs
2. ✓ have employed
3. ✗ has employed
4. ✗ employ

Question Number : 136 Question Id : 54592724174 Question Type : MCQ Option Shuffling : Yes

Correct Marks : 1 Wrong Marks : 0.25

Select the most appropriate word to fill in the blank.

In recent years an impressive number of start-ups and innovators \_\_\_\_\_ new technologies.

Options :

1. ✖ employs
2. ✔ have employed
3. ✖ has employed
4. ✖ employ

Question Number : 137 Question Id : 54592724175 Question Type : MCQ Option Shuffling : Yes

Correct Marks : 1 Wrong Marks : 0.25

Select the most appropriate word to fill in the blank.

Hazardous waste has many sources, and a long history \_\_\_\_\_ dangerous pollution.

Options :

1. ✖ for
2. ✖ to
3. ✔ of
4. ✖ at

Question Number : 137 Question Id : 54592724175 Question Type : MCQ Option Shuffling : Yes

Correct Marks : 1 Wrong Marks : 0.25



Select the most appropriate word to fill in the blank.

Hazardous waste has many sources, and a long history \_\_\_\_\_ dangerous pollution.

Options :

1. ✖ for

2. ✖ to

3. ✔ of

4. ✖ at

Question Number : 138 Question Id : 54592724176 Question Type : MCQ Option Shuffling : Yes

Correct Marks : 1 Wrong Marks : 0.25

Select the most appropriate word to fill in the blank.

Toxic waste can harm people, animals, and plants, \_\_\_\_\_ it ends up in the ground, in streams, or even in the air.

Options :

1. ✖ if

2. ✖ as

3. ✖ even

4. ✔ whether

Question Number : 138 Question Id : 54592724176 Question Type : MCQ Option Shuffling : Yes

Correct Marks : 1 Wrong Marks : 0.25

Select the most appropriate word to fill in the blank.

Toxic waste can harm people, animals, and plants,  
\_\_\_\_\_ it ends up in the ground, in streams, or even in  
the air.

Options :

1. ✖ if

2. ✖ as

3. ✖ even

4. ✔ whether

Question Number : 139 Question Id : 54592724177 Question Type : MCQ Option Shuffling : Yes  
Correct Marks : 1 Wrong Marks : 0.25

Rearrange the following sentences in their correct order to form a meaningful paragraph.

A: Now, in a surprise to paleontologists, it seems they shared their domain with an enormous bird that was almost 12 feet tall.

B: The discovery, described today represents the first giant flightless bird known to have lived in the Northern Hemisphere.

C: Almost two million years ago, giant hyenas, saber-toothed cats, and camels roamed across the European continent.

D: The extinct animal, weighed in at a whopping 990 pounds—almost three times as much as its closest living relative, the ostrich.

Options :

1. ✓ CABD

2. ✗ CADB

3. ✗ BACD

4. ✗ BADC

Question Number : 139 Question Id : 54592724177 Question Type : MCQ Option Shuffling : Yes

Correct Marks : 1 Wrong Marks : 0.25

Rearrange the following sentences in their correct order to form a meaningful paragraph.

A: Now, in a surprise to paleontologists, it seems they shared their domain with an enormous bird that was almost 12 feet tall.

B: The discovery, described today represents the first giant flightless bird known to have lived in the Northern Hemisphere.

C: Almost two million years ago, giant hyenas, saber-toothed cats, and camels roamed across the European continent.

D: The extinct animal, weighed in at a whopping 990 pounds—almost three times as much as its closest living relative, the ostrich.

Options :

1. ✓ CABD

2. ✗ CADB

3. ✗ BACD

4. ✗ BADC

A sentence has four parts, rearrange the given parts so as to form a meaningful sentence.

A: sometimes winning.

B: to a clean environment—and

C: kids are claiming a right

D: From Colombia to Pakistan to the Netherlands,

Options :

1. ✖ CBDA

2. ✔ DCBA

3. ✖ DBCA

4. ✖ CBAD

Question Number : 140 Question Id : 54592724178 Question Type : MCQ Option Shuffling : Yes

Correct Marks : 1 Wrong Marks : 0.25

A sentence has four parts, rearrange the given parts so as to form a meaningful sentence.

A: sometimes winning.

B: to a clean environment—and

C: kids are claiming a right

D: From Colombia to Pakistan to the Netherlands,

Options :

1. ✖ CBDA

2. ✓ DCBA

3. ✗ DBCA

4. ✗ CBAD

## General English2

<b>Group Number :</b>	8
<b>Group Id :</b>	5459271198
<b>Group Maximum Duration :</b>	0
<b>Group Minimum Duration :</b>	0
<b>Show Attended Group? :</b>	No
<b>Edit Attended Group? :</b>	No
<b>Break time:</b>	0
<b>Group Marks:</b>	20
<b>Is this Group for Examiner?:</b>	No
<b>Revisit allowed for group Instructions? :</b>	Yes
<b>Maximum Instruction Time:</b>	0
<b>Minimum Instruction Time:</b>	0

## General English2

<b>Section Id :</b>	5459271198
<b>Section Number :</b>	1
<b>Section type :</b>	Online
<b>Mandatory or Optional:</b>	Mandatory
<b>Number of Questions:</b>	16
<b>Number of Questions to be attempted:</b>	16
<b>Section Marks:</b>	20

<b>Sub-Section Number:</b>	1
<b>Sub-Section Id:</b>	5459271436
<b>Question Shuffling Allowed :</b>	Yes

Question Number : 141 Question Id : 54592724179 Question Type : MCQ Option Shuffling : Yes  
Correct Marks : 1 Wrong Marks : 0.25

Rearrange the following sentences in their correct order to form a meaningful paragraph.

A: The experts at the center thought the bird didn't have a chance to survive.

B: In January, an anonymous source delivered a very sick golden eagle to the Montana Raptor Center.

C: The young male eagle was in bad shape, barely breathing, curled up, talons clenched.

D: The centre, in Billings is renowned for its rehabilitation of injured birds.

Options :

1. ✖ BDAC

2. ✖ BCDA

3. ✔ BDCA

4. ✖ BCAD

Question Number : 141 Question Id : 54592724179 Question Type : MCQ Option Shuffling : Yes  
Correct Marks : 1 Wrong Marks : 0.25

Rearrange the following sentences in their correct order to form a meaningful paragraph.

A: The experts at the center thought the bird didn't have a chance to survive.

B: In January, an anonymous source delivered a very sick golden eagle to the Montana Raptor Center.

C: The young male eagle was in bad shape, barely breathing, curled up, talons clenched.

D: The centre, in Billings is renowned for its rehabilitation of injured birds.

Options :

1. ✘ BDAC

2. ✘ BCDA

3. ✔ BDCA

4. ✘ BCAD

Question Number : 142 Question Id : 54592724180 Question Type : MCQ Option Shuffling : Yes

Correct Marks : 1 Wrong Marks : 0.25

Select the synonym of the given word.

Commencement

Options :

1. ✔ Beginning



2. ✖ Contrast
3. ✖ Dissimilarity
4. ✖ Composition

Question Number : 142 Question Id : 54592724180 Question Type : MCQ Option Shuffling : Yes  
Correct Marks : 1 Wrong Marks : 0.25

Select the synonym of the given word.

Commencement

Options :

1. ✔ Beginning
2. ✖ Contrast
3. ✖ Dissimilarity
4. ✖ Composition

Question Number : 143 Question Id : 54592724181 Question Type : MCQ Option Shuffling : Yes  
Correct Marks : 1 Wrong Marks : 0.25

Select the antonym of the given word.

Adamant

Options :

1. ✖ Disciple
2. ✔ Lenient
3. ✖ Generous
4. ✖ Accurate

Question Number : 143 Question Id : 54592724181 Question Type : MCQ Option Shuffling : Yes  
Correct Marks : 1 Wrong Marks : 0.25

Select the antonym of the given word.

Adamant

Options :

1. ✖ Disciple
2. ✔ Lenient
3. ✖ Generous
4. ✖ Accurate

Question Number : 144 Question Id : 54592724182 Question Type : MCQ Option Shuffling : Yes  
Correct Marks : 1 Wrong Marks : 0.25

Select the synonym of the given word.

Deceptive

Options :

1. ✖ Biased
2. ✖ Esteemed
3. ✔ Misleading
4. ✖ Conventional

Question Number : 144 Question Id : 54592724182 Question Type : MCQ Option Shuffling : Yes  
Correct Marks : 1 Wrong Marks : 0.25

Select the synonym of the given word.

Deceptive

Options :

1. ✖ Biased
2. ✖ Esteemed
3. ✔ Misleading
4. ✖ Conventional

Question Number : 145 Question Id : 54592724183 Question Type : MCQ Option Shuffling : Yes  
Correct Marks : 1 Wrong Marks : 0.25

Select the antonym of the given word.

Consent

Options :

1. ✔ Dissent
2. ✖ Prominence
3. ✖ Approval
4. ✖ Concealed

Question Number : 145 Question Id : 54592724183 Question Type : MCQ Option Shuffling : Yes  
Correct Marks : 1 Wrong Marks : 0.25

Select the antonym of the given word.

Consent

Options :

1. ✔ Dissent
2. ✖ Prominence
3. ✖ Approval
4. ✖ Concealed

Question Number : 146 Question Id : 54592724184 Question Type : MCQ Option Shuffling : Yes  
Correct Marks : 1 Wrong Marks : 0.25

Select the synonym of the given word.

Serene

Options :

1. ✖ Unfamiliar
2. ✔ Peaceful
3. ✖ Upright
4. ✖ Precise

Question Number : 146 Question Id : 54592724184 Question Type : MCQ Option Shuffling : Yes  
Correct Marks : 1 Wrong Marks : 0.25

Select the synonym of the given word.

Serene

Options :

1. ✖ Unfamiliar
2. ✔ Peaceful
3. ✖ Upright
4. ✖ Precise

Question Number : 147 Question Id : 54592724185 Question Type : MCQ Option Shuffling : Yes  
Correct Marks : 1 Wrong Marks : 0.25

Select the wrongly spelt word.

Options :

1. ✓ Persistent
2. ✗ Inability
3. ✗ Eliminate
4. ✗ Unpleasant

Question Number : 147 Question Id : 54592724185 Question Type : MCQ Option Shuffling : Yes  
Correct Marks : 1 Wrong Marks : 0.25

Select the wrongly spelt word.

Options :

1. ✓ Persistent
2. ✗ Inability
3. ✗ Eliminate
4. ✗ Unpleasant

Question Number : 148 Question Id : 54592724186 Question Type : MCQ Option Shuffling : Yes  
Correct Marks : 1 Wrong Marks : 0.25

Select the wrongly spelt word.

Options :

1. ✗ Laborious
2. ✓ Beneficiel
3. ✗ Vacancies
4. ✗ Parallel

Question Number : 148 Question Id : 54592724186 Question Type : MCQ Option Shuffling : Yes  
Correct Marks : 1 Wrong Marks : 0.25

Select the wrongly spelt word.

Options :

1. ✖ Laborious
2. ✔ Beneficiel
3. ✖ Vacancies
4. ✖ Parallel

Question Number : 149 Question Id : 54592724187 Question Type : MCQ Option Shuffling : Yes  
Correct Marks : 1 Wrong Marks : 0.25

Select the wrongly spelt word.

Options :

1. ✖ Pamphlet
2. ✖ Conceivable
3. ✔ Unforgettable
4. ✖ Exhaustion

Question Number : 149 Question Id : 54592724187 Question Type : MCQ Option Shuffling : Yes  
Correct Marks : 1 Wrong Marks : 0.25

Select the wrongly spelt word.

Options :

1. ✖ Pamphlet
2. ✖ Conceivable

3. ✓ Unforgettable

4. ✗ Exhaustion

Question Number : 150 Question Id : 54592724188 Question Type : MCQ Option Shuffling : Yes  
Correct Marks : 1 Wrong Marks : 0.25

Select the meaning of the given idiom.

Run like the wind

Options :

1. ✓ To run very fast

2. ✗ To be inconsistent

3. ✗ Lacking support

4. ✗ In a short time

Question Number : 150 Question Id : 54592724188 Question Type : MCQ Option Shuffling : Yes  
Correct Marks : 1 Wrong Marks : 0.25

Select the meaning of the given idiom.

Run like the wind

Options :

1. ✓ To run very fast

2. ✗ To be inconsistent

3. ✗ Lacking support

4. ✗ In a short time

Question Number : 151 Question Id : 54592724189 Question Type : MCQ Option Shuffling : Yes  
Correct Marks : 1 Wrong Marks : 0.25

Select the meaning of the given idiom.

Jump on the bandwagon

Options :

1. ✖ To be careless
2. ✔ Follow the trend
3. ✖ In a hurried manner
4. ✖ To take a risk

Question Number : 151 Question Id : 54592724189 Question Type : MCQ Option Shuffling : Yes  
Correct Marks : 1 Wrong Marks : 0.25

Select the meaning of the given idiom.

Jump on the bandwagon

Options :

1. ✖ To be careless
2. ✔ Follow the trend
3. ✖ In a hurried manner
4. ✖ To take a risk

Question Number : 152 Question Id : 54592724190 Question Type : MCQ Option Shuffling : Yes  
Correct Marks : 1 Wrong Marks : 0.25

Select the meaning of the given idiom.

Go down in flames

Options :

1. ✖ To arrive early



2. ✖ To be in short supply

3. ✔ To fail spectacularly

4. ✖ Lack in concentration

Question Number : 152 Question Id : 54592724190 Question Type : MCQ Option Shuffling : Yes  
Correct Marks : 1 Wrong Marks : 0.25

Select the meaning of the given idiom.

Go down in flames

Options :

1. ✖ To arrive early

2. ✖ To be in short supply

3. ✔ To fail spectacularly

4. ✖ Lack in concentration

Question Number : 153 Question Id : 54592724191 Question Type : MCQ Option Shuffling : Yes  
Correct Marks : 1 Wrong Marks : 0.25

Select the word which means the same as the group of words given.

To have unlimited power

Options :

1. ✔ Omnipotent

2. ✖ Autocracy

3. ✖ Autonomous

4. ✖ Indelible

Question Number : 153 Question Id : 54592724191 Question Type : MCQ Option Shuffling : Yes

Correct Marks : 1 Wrong Marks : 0.25

Select the word which means the same as the group of words given.

To have unlimited power

Options :

1. ✓ Omnipotent
2. ✗ Autocracy
3. ✗ Autonomous
4. ✗ Indelible

Question Number : 154 Question Id : 54592724192 Question Type : MCQ Option Shuffling : Yes  
Correct Marks : 1 Wrong Marks : 0.25

Select the word which means the same as the group of words given.

Impossible to believe

Options :

1. ✗ Illegible
2. ✓ Incredible
3. ✗ Inconsistent
4. ✗ Indelible

Question Number : 154 Question Id : 54592724192 Question Type : MCQ Option Shuffling : Yes  
Correct Marks : 1 Wrong Marks : 0.25

Select the word which means the same as the group of words given.

Impossible to believe

Options :

1. ✖ Illegible
2. ✔ Incredible
3. ✖ Inconsistent
4. ✖ Indelible

Question Number : 155 Question Id : 54592724193 Question Type : MCQ Option Shuffling : Yes

Correct Marks : 1 Wrong Marks : 0.25

Select the word which means the same as the group of words given.

An account of someone's life written by someone else.

Options :

1. ✖ Autobiography
2. ✖ Bibliography
3. ✔ Biography
4. ✖ Calligraphy

Question Number : 155 Question Id : 54592724193 Question Type : MCQ Option Shuffling : Yes

Correct Marks : 1 Wrong Marks : 0.25

Select the word which means the same as the group of words given.

An account of someone's life written by someone else.

Options :

1. ✖ Autobiography
2. ✖ Bibliography
3. ✔ Biography
4. ✖ Calligraphy

Sub-Section Number:	2
Sub-Section Id:	5459271437
Question Shuffling Allowed :	Yes

Question Id : 54592724194 Question Type : COMPREHENSION Sub Question Shuffling Allowed : Yes Group Comprehension Questions : No

Question Numbers : (156 to 160)

Question Label : Comprehension

Answer the questions based on the following passage.

Education has become one of the clearest indicators of life outcomes such as employment, income and social status, and is a strong predictor of attitudes and wellbeing.

Education is often used by people to shape their ‘social identity’, framing their understanding of themselves and their relationships with other people. A positive, affirming social identity is associated with a range of positive outcomes in life, such as increased wellbeing, health, social trust and political engagement.

However, the emphasis on education in today’s society makes it much harder for people with low levels of education to develop a positive social identity. This can negatively affect self-esteem and wellbeing.

The research project Identity, Socioeconomic Status and Wellbeing, which is funded by the Economic and Social Research Council’s (ESRC) Secondary Data Analysis Initiative, has investigated the psychological effect of differences in education. This study is the first to compare the strength and stability of the ‘education effect’ on a wide range of outcomes over time.

The researchers analysed data from the British Social Attitudes Survey, the British Household Panel Survey and the International Social Survey Programme. Findings indicated a clear association between education and wellbeing.

The results suggest that higher education levels are associated with higher levels of political interest, social trust, health and wellbeing, and lower levels of political cynicism and hostile attitudes towards immigrants. These effects were found to be relatively stable over time. Most of the positive effects of education are linked to the benefits associated with achieving a university education.

Sub questions

Question Number : 156 Question Id : 54592724195 Question Type : MCQ Option Shuffling : Yes  
Correct Marks : 1 Wrong Marks : 0.25

The subject matter of the given passage deals with:

Options :

1. ✓ The wellbeing effect of education
2. ✗ Social identity
3. ✗ Emphasis on education
4. ✗ Self-esteem & well-being

Question Number : 157 Question Id : 54592724196 Question Type : MCQ Option Shuffling : Yes  
Correct Marks : 1 Wrong Marks : 0.25

According to the given passage, what can negatively affect an individual's self-esteem and wellbeing?

Options :

1. ✗ Social Identity
2. ✓ Low levels of education
3. ✗ Income and social status
4. ✗ Attitude towards life

Question Number : 158 Question Id : 54592724197 Question Type : MCQ Option Shuffling : Yes  
Correct Marks : 1 Wrong Marks : 0.25

From among the given options choose the most appropriate antonym of the word 'cynicism' as used in the last paragraph of the passage:

Options :

1. ✗ Mistrust

2. ✓ Optimism

3. ✗ Hostility

4. ✗ Relevance

Question Number : 159 Question Id : 54592724198 Question Type : MCQ Option Shuffling : Yes  
Correct Marks : 1 Wrong Marks : 0.25

Which of the following statements is/are not true according to the passage?

Options :

1. ✗ Education has an impact on income and social status.

2. ✗ Education plays a role in shaping people's 'social identity'.

3. ✓ Higher education levels is associated with hostile attitudes towards immigrants.

4. ✗ Higher education levels are associated with lower levels of political cynicism.

Question Number : 160 Question Id : 54592724199 Question Type : MCQ Option Shuffling : Yes  
Correct Marks : 1 Wrong Marks : 0.25

The researchers analyzed data from:

Options :

1. ✗ The British Social Attitudes Survey

2. ✗ The British Household Panel Survey

3. ✗ The International Social Survey Programme

4. ✓ All of the above

Question Id : 54592724194 Question Type : COMPREHENSION Sub Question Shuffling Allowed : Yes Group Comprehension Questions : No

Question Numbers : (156 to 160)

Question Label : Comprehension



Answer the questions based on the following passage.

Education has become one of the clearest indicators of life outcomes such as employment, income and social status, and is a strong predictor of attitudes and wellbeing.

Education is often used by people to shape their 'social identity', framing their understanding of themselves and their relationships with other people. A positive, affirming social identity is associated with a range of positive outcomes in life, such as increased wellbeing, health, social trust and political engagement.

However, the emphasis on education in today's society makes it much harder for people with low levels of education to develop a positive social identity. This can negatively affect self-esteem and wellbeing.

The research project Identity, Socioeconomic Status and Wellbeing, which is funded by the Economic and Social Research Council's (ESRC) Secondary Data Analysis Initiative, has investigated the psychological effect of differences in education. This study is the first to compare the strength and stability of the 'education effect' on a wide range of outcomes over time.

The researchers analysed data from the British Social Attitudes Survey, the British Household Panel Survey and the International Social Survey Programme. Findings indicated a clear association between education and wellbeing.

The results suggest that higher education levels are associated with higher levels of political interest, social trust, health and wellbeing, and lower levels of political cynicism and hostile attitudes towards immigrants. These effects were found to be relatively stable over time. Most of the positive effects of education are linked to the benefits associated with achieving a university education.

Sub questions

Question Number : 156 Question Id : 54592724195 Question Type : MCQ Option Shuffling : Yes  
Correct Marks : 1 Wrong Marks : 0.25

The subject matter of the given passage deals with:

Options :

1. ✓ The wellbeing effect of education
2. ✗ Social identity
3. ✗ Emphasis on education
4. ✗ Self-esteem & well-being

Question Number : 157 Question Id : 54592724196 Question Type : MCQ Option Shuffling : Yes  
Correct Marks : 1 Wrong Marks : 0.25

According to the given passage, what can negatively affect an individual's self-esteem and wellbeing?

Options :

1. ✗ Social Identity
2. ✓ Low levels of education
3. ✗ Income and social status
4. ✗ Attitude towards life

Question Number : 158 Question Id : 54592724197 Question Type : MCQ Option Shuffling : Yes  
Correct Marks : 1 Wrong Marks : 0.25

From among the given options choose the most appropriate antonym of the word 'cynicism' as used in the last paragraph of the passage:

Options :

1. ✖ Mistrust
2. ✔ Optimism
3. ✖ Hostility
4. ✖ Relevance

Question Number : 159 Question Id : 54592724198 Question Type : MCQ Option Shuffling : Yes  
Correct Marks : 1 Wrong Marks : 0.25

Which of the following statements is/are not true according to the passage?

Options :

1. ✖ Education has an impact on income and social status.
2. ✖ Education plays a role in shaping people's 'social identity'.
3. ✔ Higher education levels is associated with hostile attitudes towards immigrants.
4. ✖ Higher education levels are associated with lower levels of political cynicism.

Question Number : 160 Question Id : 54592724199 Question Type : MCQ Option Shuffling : Yes

Correct Marks : 1 Wrong Marks : 0.25

The researchers analyzed data from:

Options :

1. ✘ The British Social Attitudes Survey
2. ✘ The British Household Panel Survey
3. ✘ The International Social Survey Programme
4. ✔ All of the above

## General Hindi1

Group Number :	9
Group Id :	5459271199
Group Maximum Duration :	0
Group Minimum Duration :	0
Show Attended Group? :	No
Edit Attended Group? :	No
Break time:	0
Group Marks:	20
Is this Group for Examiner?:	No
Revisit allowed for group Instructions? :	Yes
Maximum Instruction Time:	0
Minimum Instruction Time:	0

## General Hindi1

Section Id :	5459271199
Section Number :	1
Section type :	Online
Mandatory or Optional:	Mandatory
Number of Questions:	20
Number of Questions to be attempted:	20
Section Marks:	20

Sub-Section Number:	1
Sub-Section Id:	5459271438
Question Shuffling Allowed :	Yes

Question Number : 161 Question Id : 54592724200 Question Type : MCQ Option Shuffling : Yes  
Correct Marks : 1 Wrong Marks : 0.25

इनमें से किस वाक्य में संबंधबोधक अव्यय का प्रयोग हुआ है?

Options :

1. \* मैं पीछे आया था।
2. ✓ मैं काम के पीछे आया था।
3. \* ऐसा काम मत करो।
4. \* वाह! मैं नहीं जाऊँगा।

Question Number : 161 Question Id : 54592724200 Question Type : MCQ Option Shuffling : Yes  
Correct Marks : 1 Wrong Marks : 0.25

इनमें से किस वाक्य में संबंधबोधक अव्यय का प्रयोग हुआ है?

Options :

1. \* मैं पीछे आया था।
2. ✓ मैं काम के पीछे आया था।
3. \* ऐसा काम मत करो।
4. \* वाह! मैं नहीं जाऊँगा।

Question Number : 162 Question Id : 54592724201 Question Type : MCQ Option Shuffling : Yes  
Correct Marks : 1 Wrong Marks : 0.25

निम्नलिखित में से कौन-सा तत्सम शब्द है?

Options :

1. ✓ लोक
2. \* काम
3. \* हँसी
4. \* नेह

Question Number : 162 Question Id : 54592724201 Question Type : MCQ Option Shuffling : Yes  
Correct Marks : 1 Wrong Marks : 0.25

निम्नलिखित में से कौन-सा तत्सम शब्द है?

Options :

1. ✓ लोक

2. \* काम

3. \* हँसी

4. \* नेह

Question Number : 163 Question Id : 54592724202 Question Type : MCQ Option Shuffling : Yes  
Correct Marks : 1 Wrong Marks : 0.25

‘चौराहा’ में कौन-सा समास है?

Options :

1. \* तत्पुरुष समास

2. \* कर्मधारय समास

3. ✓ द्विगु समास

4. \* द्वंद्व समास

Question Number : 163 Question Id : 54592724202 Question Type : MCQ Option Shuffling : Yes  
Correct Marks : 1 Wrong Marks : 0.25

‘चौराहा’ में कौन-सा समास है?

Options :

1. \* तत्पुरुष समास

2. \* कर्मधारय समास

3. ✓ द्विगु समास

4. \* द्वंद्व समास

Question Number : 164 Question Id : 54592724203 Question Type : MCQ Option Shuffling : Yes  
Correct Marks : 1 Wrong Marks : 0.25

‘अत्यन्त’ में कौन-सा उपसर्ग है?

Options :

1. \* ‘अ’

2. ✓ ‘अति’

3. \* अन्त

4. \* आ

Question Number : 164 Question Id : 54592724203 Question Type : MCQ Option Shuffling : Yes

Correct Marks : 1 Wrong Marks : 0.25

‘अत्यन्त’ में कौन-सा उपसर्ग है?

Options :

1. ✖ ‘अ’
2. ✔ ‘अति’
3. ✖ अन्त
4. ✖ आ

Question Number : 165 Question Id : 54592724204 Question Type : MCQ Option Shuffling : Yes

Correct Marks : 1 Wrong Marks : 0.25

शायद कमरे में कोई छिपा हुआ है इस वाक्य में रेखांकित शब्द है:

Options :

1. ✖ सम्बंधवाचक सर्वनाम
2. ✔ अनिश्चयवाचक सर्वनाम
3. ✖ प्रश्नवाचक सर्वनाम
4. ✖ सम्बंधबोधक सर्वनाम

Question Number : 165 Question Id : 54592724204 Question Type : MCQ Option Shuffling : Yes

Correct Marks : 1 Wrong Marks : 0.25

शायद कमरे में कोई छिपा हुआ है इस वाक्य में रेखांकित शब्द है:

Options :

1. ✖ सम्बंधवाचक सर्वनाम
2. ✔ अनिश्चयवाचक सर्वनाम
3. ✖ प्रश्नवाचक सर्वनाम
4. ✖ सम्बंधबोधक सर्वनाम

Question Number : 166 Question Id : 54592724205 Question Type : MCQ Option Shuffling : Yes

Correct Marks : 1 Wrong Marks : 0.25

अजगर का पर्यायवाची शब्द है:

Options :

1. ✖ अटवी

2. \* रीढ़
3. \* दैत्य
4. ✓ वाहस

Question Number : 166 Question Id : 54592724205 Question Type : MCQ Option Shuffling : Yes  
Correct Marks : 1 Wrong Marks : 0.25

अजगर का पर्यायवाची शब्द है:

Options :

1. \* अटवी
2. \* रीढ़
3. \* दैत्य
4. ✓ वाहस

Question Number : 167 Question Id : 54592724206 Question Type : MCQ Option Shuffling : Yes  
Correct Marks : 1 Wrong Marks : 0.25

समास का विलोम शब्द है:

Options :

1. \* व्यक्ति
2. \* प्रलय
3. ✓ व्यास
4. \* नरक

Question Number : 167 Question Id : 54592724206 Question Type : MCQ Option Shuffling : Yes  
Correct Marks : 1 Wrong Marks : 0.25

समास का विलोम शब्द है:

Options :

1. \* व्यक्ति
2. \* प्रलय
3. ✓ व्यास
4. \* नरक



Question Number : 168 Question Id : 54592724207 Question Type : MCQ Option Shuffling : Yes  
Correct Marks : 1 Wrong Marks : 0.25

दिए गए वाक्य के लिए एक शब्द का चयन करें।

जो जिन के मत को माने।

Options :

1. \* सर्वोदयी
2. \* बौद्ध
3. ✓ जैनी
4. \* शाक्त

Question Number : 168 Question Id : 54592724207 Question Type : MCQ Option Shuffling : Yes  
Correct Marks : 1 Wrong Marks : 0.25

दिए गए वाक्य के लिए एक शब्द का चयन करें।

जो जिन के मत को माने।

Options :

1. \* सर्वोदयी
2. \* बौद्ध
3. ✓ जैनी
4. \* शाक्त

Question Number : 169 Question Id : 54592724208 Question Type : MCQ Option Shuffling : Yes  
Correct Marks : 1 Wrong Marks : 0.25

दिए गए शब्दों में शुद्ध वर्तनी वाले शब्द का चयन करें।

Options :

1. ✓ वास्तविकता
2. \* वास्तविकता
3. \* वास्ताविकता

## 4. \* वास्ताविकता

Question Number : 169 Question Id : 54592724208 Question Type : MCQ Option Shuffling : Yes  
Correct Marks : 1 Wrong Marks : 0.25

दिए गए शब्दों में शुद्ध वर्तनी वाले शब्द का चयन करें।

Options :

1. ✓ वास्तविकता
2. \* वास्तविकता
3. \* वास्ताविकता
4. \* वास्ताविकता

Question Number : 170 Question Id : 54592724209 Question Type : MCQ Option Shuffling : Yes  
Correct Marks : 1 Wrong Marks : 0.25

“चलायमान रहने वाली सम्पत्ति” के लिए एक शब्द का चयन करें।

Options :

1. \* अचल सम्पत्ति
2. ✓ चल सम्पत्ति
3. \* अविचल सम्पत्ति
4. \* अस्थिर सम्पत्ति

Question Number : 170 Question Id : 54592724209 Question Type : MCQ Option Shuffling : Yes  
Correct Marks : 1 Wrong Marks : 0.25

“चलायमान रहने वाली सम्पत्ति” के लिए एक शब्द का चयन करें।

Options :

1. \* अचल सम्पत्ति
2. ✓ चल सम्पत्ति
3. \* अविचल सम्पत्ति
4. \* अस्थिर सम्पत्ति

Question Number : 171 Question Id : 54592724210 Question Type : MCQ Option Shuffling : Yes  
Correct Marks : 1 Wrong Marks : 0.25

धूप का पर्यायवाची शब्द है:

Options :

1. ✓ आतप
2. ✗ ईश
3. ✗ सर
4. ✗ वासर

Question Number : 171 Question Id : 54592724210 Question Type : MCQ Option Shuffling : Yes  
Correct Marks : 1 Wrong Marks : 0.25

धूप का पर्यायवाची शब्द है:

Options :

1. ✓ आतप
2. ✗ ईश
3. ✗ सर
4. ✗ वासर

Question Number : 172 Question Id : 54592724211 Question Type : MCQ Option Shuffling : Yes  
Correct Marks : 1 Wrong Marks : 0.25

निम्नलिखित शब्द-युग्म के सही अर्थ-भेद का चयन कीजिए।

अंस - अंश - ?

Options :

1. ✗ हिस्सा-कुल
2. ✓ कंधा-हिस्सा
3. ✗ किनारा-भाग
4. ✗ परिवार-भाग

Question Number : 172 Question Id : 54592724211 Question Type : MCQ Option Shuffling : Yes  
Correct Marks : 1 Wrong Marks : 0.25

निम्नलिखित शब्द-युग्म के सही अर्थ-भेद का चयन कीजिए।

अंस - अंश - ?

Options :

1. ✖ हिस्सा-कुल
2. ✔ कंधा-हिस्सा
3. ✖ किनारा-भाग
4. ✖ परिवार-भाग

Question Number : 173 Question Id : 54592724212 Question Type : MCQ Option Shuffling : Yes  
Correct Marks : 1 Wrong Marks : 0.25

सार्थक खण्ड वाले शब्द क्या कहलाते हैं?

Options :

1. ✖ रूढ़
2. ✖ योगरूढ़
3. ✔ यौगिक
4. ✖ संगम

Question Number : 173 Question Id : 54592724212 Question Type : MCQ Option Shuffling : Yes  
Correct Marks : 1 Wrong Marks : 0.25

सार्थक खण्ड वाले शब्द क्या कहलाते हैं?

Options :

1. ✖ रूढ़
2. ✖ योगरूढ़
3. ✔ यौगिक
4. ✖ संगम

Question Number : 174 Question Id : 54592724213 Question Type : MCQ Option Shuffling : Yes  
Correct Marks : 1 Wrong Marks : 0.25

यर्थाथ का विलोम शब्द है।

Options :

1. ✖ बूढ़ा
2. ✖ शान्ति
3. ✖ पूर्ण

## 4. ✓ कल्पित

Question Number : 174 Question Id : 54592724213 Question Type : MCQ Option Shuffling : Yes  
Correct Marks : 1 Wrong Marks : 0.25

यर्थाथ का विलोम शब्द है।

Options :

1. ✘ बूढ़ा
2. ✘ शान्ति
3. ✘ पूर्ण
4. ✓ कल्पित

Question Number : 175 Question Id : 54592724214 Question Type : MCQ Option Shuffling : Yes  
Correct Marks : 1 Wrong Marks : 0.25

निर्देश: दिए गए विकल्पों में से शुद्ध शब्द का चयन करें।

Options :

1. ✘ प्रयश्चित
2. ✓ पैतृक
3. ✘ नीपत
4. ✘ विद्धन

Question Number : 175 Question Id : 54592724214 Question Type : MCQ Option Shuffling : Yes  
Correct Marks : 1 Wrong Marks : 0.25

निर्देश: दिए गए विकल्पों में से शुद्ध शब्द का चयन करें।

Options :

1. ✘ प्रयश्चित
2. ✓ पैतृक
3. ✘ नीपत
4. ✘ विद्धन

Question Number : 176 Question Id : 54592724215 Question Type : MCQ Option Shuffling : Yes  
Correct Marks : 1 Wrong Marks : 0.25

कवि का स्त्रीलिंग रूप क्या होगा?

Options :

1. \* कवित्रि
2. \* लेखिका
3. \* कवीत्री
4. ✓ कवयित्री

Question Number : 176 Question Id : 54592724215 Question Type : MCQ Option Shuffling : Yes  
Correct Marks : 1 Wrong Marks : 0.25

कवि का स्त्रीलिंग रूप क्या होगा?

Options :

1. \* कवित्रि
2. \* लेखिका
3. \* कवीत्री
4. ✓ कवयित्री

Question Number : 177 Question Id : 54592724216 Question Type : MCQ Option Shuffling : Yes  
Correct Marks : 1 Wrong Marks : 0.25

वर्षा शब्द का उचित बहुवचन चुनिए।

Options :

1. \* वर्षाएँ
2. \* वर्षाओं
3. ✓ वर्षा
4. \* वर्षागण

Question Number : 177 Question Id : 54592724216 Question Type : MCQ Option Shuffling : Yes  
Correct Marks : 1 Wrong Marks : 0.25

वर्षा शब्द का उचित बहुवचन चुनिए।

Options :

1. \* वर्षाएँ
2. \* वर्षाओं
3. ✓ वर्षा

## 4. \* वर्षागण

Question Number : 178 Question Id : 54592724217 Question Type : MCQ Option Shuffling : Yes

Correct Marks : 1 Wrong Marks : 0.25

मोहन प्रकाशजी \_\_\_\_\_ हिन्दी पढ़ाते हैं इस वाक्य में रिक्त स्थान की पूर्ति अन्यपुरुषवाचक सर्वनाम से करें।

Options :

1. \* मुझे
2. \* तुम्हें
3. ✓ उन्हें
4. \* हमें

Question Number : 178 Question Id : 54592724217 Question Type : MCQ Option Shuffling : Yes

Correct Marks : 1 Wrong Marks : 0.25

मोहन प्रकाशजी \_\_\_\_\_ हिन्दी पढ़ाते हैं इस वाक्य में रिक्त स्थान की पूर्ति अन्यपुरुषवाचक सर्वनाम से करें।

Options :

1. \* मुझे
2. \* तुम्हें
3. ✓ उन्हें
4. \* हमें

Question Number : 179 Question Id : 54592724218 Question Type : MCQ Option Shuffling : Yes

Correct Marks : 1 Wrong Marks : 0.25

काल के बोध का सम्बंध किससे होता है?

Options :

1. \* वचन
2. ✓ क्रिया
3. \* संज्ञा
4. \* अव्यय

Question Number : 179 Question Id : 54592724218 Question Type : MCQ Option Shuffling : Yes

Correct Marks : 1 Wrong Marks : 0.25

काल के बोध का सम्बंध किससे होता है?

Options :

1. \* वचन
2. ✓ क्रिया
3. \* संज्ञा
4. \* अव्यय

Question Number : 180 Question Id : 54592724219 Question Type : MCQ Option Shuffling : Yes  
Correct Marks : 1 Wrong Marks : 0.25

वाच्य कितने प्रकार के होते हैं?

Options :

1. ✓ तीन
2. \* चार
3. \* पाँच
4. \* छः

Question Number : 180 Question Id : 54592724219 Question Type : MCQ Option Shuffling : Yes  
Correct Marks : 1 Wrong Marks : 0.25

वाच्य कितने प्रकार के होते हैं?

Options :

1. ✓ तीन
2. \* चार
3. \* पाँच
4. \* छः

## General Hindi2

Group Number :	10
Group Id :	5459271200
Group Maximum Duration :	0
Group Minimum Duration :	120
Show Attended Group? :	No



Edit Attended Group? :	No
Break time:	0
Group Marks:	20
Is this Group for Examiner?:	No
Revisit allowed for group Instructions? :	Yes
Maximum Instruction Time:	0
Minimum Instruction Time:	0

## General Hindi2

Section Id :	5459271200
Section Number :	1
Section type :	Online
Mandatory or Optional:	Mandatory
Number of Questions:	16
Number of Questions to be attempted:	16
Section Marks:	20

Sub-Section Number:	1
Sub-Section Id:	5459271439
Question Shuffling Allowed :	Yes

Question Number : 181 Question Id : 54592724220 Question Type : MCQ Option Shuffling : Yes  
Correct Marks : 1 Wrong Marks : 0.25

निम्नलिखित में निषेधार्थक वाक्य कौन-सा है?

Options :

1. \* सिंह बड़ा ताकतवर जानवर है
2. \* क्या सिंह बड़ा ताकतवर जानवर है
3. ✓ सिंह से बढ़कर ताकतवर जानवर कोई नहीं है
4. \* अरे, सिंह बड़ा ताकतवर जानवर है

Question Number : 181 Question Id : 54592724220 Question Type : MCQ Option Shuffling : Yes  
Correct Marks : 1 Wrong Marks : 0.25

निम्नलिखित में निषेधार्थक वाक्य कौन-सा है?

Options :

1. \* सिंह बड़ा ताकतवर जानवर है
2. \* क्या सिंह बड़ा ताकतवर जानवर है
3. ✓ सिंह से बढ़कर ताकतवर जानवर कोई नहीं है

#### 4. \* अरे, सिंह बड़ा ताकतवर जानवर है

Question Number : 182 Question Id : 54592724221 Question Type : MCQ Option Shuffling : Yes

Correct Marks : 1 Wrong Marks : 0.25

‘राम ने लंका का राज्य विभीषण को दे दिया’ वाक्य का कर्मवाच्य क्या होगा?

Options :

1. \* राम ने लंका का राज्य विभीषण को दिया होगा।
2. ✓ राम के द्वारा लंका का राज्य विभीषण को दे दिया गया।
3. \* राम ने लंका का राज्य विभीषण को दे दिया’
4. \* विभीषण को लंका का राज्य राम से प्राप्ता।

Question Number : 182 Question Id : 54592724221 Question Type : MCQ Option Shuffling : Yes

Correct Marks : 1 Wrong Marks : 0.25

‘राम ने लंका का राज्य विभीषण को दे दिया’ वाक्य का कर्मवाच्य क्या होगा?

Options :

1. \* राम ने लंका का राज्य विभीषण को दिया होगा।
2. ✓ राम के द्वारा लंका का राज्य विभीषण को दे दिया गया।
3. \* राम ने लंका का राज्य विभीषण को दे दिया’
4. \* विभीषण को लंका का राज्य राम से प्राप्त।

Question Number : 183 Question Id : 54592724222 Question Type : MCQ Option Shuffling : Yes

Correct Marks : 1 Wrong Marks : 0.25

शुद्ध वाक्य का चयन करो।

Options :

1. \* न्यायालय ने उसको निर्दोषी ठहराया।
2. ✓ न्यायालय ने उसको निर्दोष ठहराया।
3. \* न्यायालय ने उसको अपराधी ठहराया।
4. \* निरपराधी को दंड देना उचित नहीं।

Question Number : 183 Question Id : 54592724222 Question Type : MCQ Option Shuffling : Yes

Correct Marks : 1 Wrong Marks : 0.25

शुद्ध वाक्य का चयन करे।

Options :

1. \* न्यायालय ने उसको निर्दोषी ठहराया।
2. ✓ न्यायालय ने उसको निर्दोष ठहराया।
3. \* न्यायालय ने उसको अपराधी ठहराया।
4. \* निरपराधी को दंड देना उचित नहीं।

Question Number : 184 Question Id : 54592724223 Question Type : MCQ Option Shuffling : Yes

Correct Marks : 1 Wrong Marks : 0.25

वाक्यों का वर्गीकरण कितने आधारों पर किया गया है?

Options :

1. \* तीन
2. \* चार
3. \* पाँच
4. ✓ दो

Question Number : 184 Question Id : 54592724223 Question Type : MCQ Option Shuffling : Yes

Correct Marks : 1 Wrong Marks : 0.25

वाक्यों का वर्गीकरण कितने आधारों पर किया गया है?

Options :

1. \* तीन
2. \* चार
3. \* पाँच
4. ✓ दो

Question Number : 185 Question Id : 54592724224 Question Type : MCQ Option Shuffling : Yes

Correct Marks : 1 Wrong Marks : 0.25

उपवाक्य और वाक्य में अंतर है \_\_\_\_\_।

Options :

1. \* उपवाक्य स्वतंत्र रूप से प्रयुक्त होता है, वाक्य नहीं
2. \* उपवाक्य सर्वथा वाक्य से अलग रहता है।

3. ✓ वाक्य का स्वतंत्र प्रयोग होता है: किन्तु उपवाक्य का नहीं।

4. ✘ कोई अंतर नहीं होता है।

Question Number : 185 Question Id : 54592724224 Question Type : MCQ Option Shuffling : Yes

Correct Marks : 1 Wrong Marks : 0.25

उपवाक्य और वाक्य में अंतर है \_\_\_\_\_।

Options :

1. ✘ उपवाक्य स्वतंत्र रूप से प्रयुक्त होता है, वाक्य नहीं।

2. ✘ उपवाक्य सर्वथा वाक्य से अलग रहता है।

3. ✓ वाक्य का स्वतंत्र प्रयोग होता है: किन्तु उपवाक्य का नहीं।

4. ✘ कोई अंतर नहीं होता है।

Question Number : 186 Question Id : 54592724225 Question Type : MCQ Option Shuffling : Yes

Correct Marks : 1 Wrong Marks : 0.25

निर्देश: नीचे दिये गये प्रश्न को चार भागों में बाँटा गया है (A), (B), (C) और (D) क्रमांक दिए गए हैं। आपको यह देखना है कि वाक्य के किस भाग में व्याकरण, भाषा, वर्तनी, शब्दों के गलत प्रयोग या इसी तरह की कोई त्रुटि तो नहीं है। यदि त्रुटि होगी तो वाक्य के किसी एक भाग में ही होगी। उस भाग का क्रमांक ही आपका उत्तर है।

श्याम ने यह प्रण कर लिया है (A)/ कि वह विद्या समाप्त (B)/करने के पश्चात् ही (C)/नौकरी के लिए आवेदन करेगा। कोई त्रुटि नहीं (d)

Options :

1. ✘ A

2. ✓ B

3. ✘ C

4. ✘ D

Question Number : 186 Question Id : 54592724225 Question Type : MCQ Option Shuffling : Yes

Correct Marks : 1 Wrong Marks : 0.25

निर्देश: नीचे दिये गये प्रश्न को चार भागों में बाँटा गया है (A), (B), (C) और (D) क्रमांक दिए गए हैं। आपको यह देखना है कि वाक्य के किस भाग में व्याकरण, भाषा, वर्तनी, शब्दों के गलत प्रयोग या इसी तरह की कोई त्रुटि तो नहीं है। यदि त्रुटि होगी तो वाक्य के किसी एक भाग में ही होगी। उस भाग का क्रमांक ही आपका उत्तर है।

श्याम ने यह प्रण कर लिया है (A)/ कि वह विद्या समाप्त (B)/करने के पश्चात् ही (C)/नौकरी के लिए आवेदन करेगा। कोई त्रुटि नहीं (d)

Options :

1. ✘ A
2. ✔ B
3. ✘ C
4. ✘ D

Question Number : 187 Question Id : 54592724226 Question Type : MCQ Option Shuffling : Yes

Correct Marks : 1 Wrong Marks : 0.25

वाक्य 'चोर ने अपने बचाव का कोई उपाय नहीं देखा' का मिश्रवाक्य क्या होगा?

Options :

1. ✘ चोर ने अपने बचाव का उपाय नहीं देखा
2. ✘ चोर ने स्वयं के बचाव का कोई उपाय नहीं देखा
3. ✔ चोर ने देखा कि उसके बचाव का कोई उपाय नहीं है।
4. ✘ चोर के पास उसके बचाव का कोई उपाय नहीं है।

Question Number : 187 Question Id : 54592724226 Question Type : MCQ Option Shuffling : Yes

Correct Marks : 1 Wrong Marks : 0.25

वाक्य 'चोर ने अपने बचाव का कोई उपाय नहीं देखा' का मिश्रवाक्य क्या होगा?

Options :

1. ✘ चोर ने अपने बचाव का उपाय नहीं देखा

2. \* चोर ने स्वयं के बचाव का कोई उपाय नहीं देखा
3. ✓ चोर ने देखा कि उसके बचाव का कोई उपाय नहीं है।
4. \* चोर के पास उसके बचाव का कोई उपाय नहीं है।

Question Number : 188 Question Id : 54592724227 Question Type : MCQ Option Shuffling : Yes  
Correct Marks : 1 Wrong Marks : 0.25

जहाँ वाक्य की गति अन्तिम रूप ले ले, विचार के तार एकदम टूट जाएँ, वहाँ किस चिन्ह का प्रयोग किया जाता है?

Options :

1. \* योजक
2. \* उद्धरण चिन्ह
3. \* अल्प विराम
4. ✓ पूर्ण विराम

Question Number : 188 Question Id : 54592724227 Question Type : MCQ Option Shuffling : Yes  
Correct Marks : 1 Wrong Marks : 0.25

जहाँ वाक्य की गति अन्तिम रूप ले ले, विचार के तार एकदम टूट जाएँ, वहाँ किस चिन्ह का प्रयोग किया जाता है?

Options :

1. \* योजक
2. \* उद्धरण चिन्ह
3. \* अल्प विराम
4. ✓ पूर्ण विराम

Question Number : 189 Question Id : 54592724228 Question Type : MCQ Option Shuffling : Yes  
Correct Marks : 1 Wrong Marks : 0.25

“काफूर होना” मुहावरे का क्या अर्थ है?

Options :

1. \* निर्णय न होना
2. \* अलग रहना
3. ✓ भाग जाना

## 4. \* चुगली करना

Question Number : 189 Question Id : 54592724228 Question Type : MCQ Option Shuffling : Yes  
Correct Marks : 1 Wrong Marks : 0.25

“काफूर होना” मुहावरे का क्या अर्थ है?

Options :

1. \* निर्णय न होना
2. \* अलग रहना
3. ✓ भाग जाना
4. \* चुगली करना

Question Number : 190 Question Id : 54592724229 Question Type : MCQ Option Shuffling : Yes  
Correct Marks : 1 Wrong Marks : 0.25

एक ही वाक्य या वाक्यांश में एक ही तरह के पद, शब्द, पदबन्ध या वाक्यांश एक साथ आने पर \_\_\_\_\_ लगाया जाता है।

Options :

1. ✓ अल्प विराम
2. \* पूर्ण विराम
3. \* अर्द्धविराम
4. \* विस्मयादिबोधक

Question Number : 190 Question Id : 54592724229 Question Type : MCQ Option Shuffling : Yes  
Correct Marks : 1 Wrong Marks : 0.25

एक ही वाक्य या वाक्यांश में एक ही तरह के पद, शब्द, पदबन्ध या वाक्यांश एक साथ आने पर \_\_\_\_\_ लगाया जाता है।

Options :

1. ✓ अल्प विराम
2. \* पूर्ण विराम
3. \* अर्द्धविराम
4. \* विस्मयादिबोधक

Question Number : 191 Question Id : 54592724230 Question Type : MCQ Option Shuffling : Yes  
Correct Marks : 1 Wrong Marks : 0.25

लोकोक्ति “तू डाल-डाल, मैं पात-पात” का अर्थ है:

Options :

1. \* एक नाव पर सवार होना
2. \* परिणाम कुछ भी नहीं
3. \* अपने किए का फल पाना
4. ✓ तुम चालाक तो मैं भी चालाक

Question Number : 191 Question Id : 54592724230 Question Type : MCQ Option Shuffling : Yes  
Correct Marks : 1 Wrong Marks : 0.25

लोकोक्ति “तू डाल-डाल, मैं पात-पात” का अर्थ है:

Options :

1. \* एक नाव पर सवार होना
2. \* परिणाम कुछ भी नहीं
3. \* अपने किए का फल पाना
4. ✓ तुम चालाक तो मैं भी चालाक

Question Number : 192 Question Id : 54592724231 Question Type : MCQ Option Shuffling : Yes  
Correct Marks : 1 Wrong Marks : 0.25

जब दो शब्दों में एक सार्थक और दूसरा निरर्थक हो तब वहाँ लगाया जाता है।

Options :

1. \* उद्धरण चिन्ह
2. ✓ योजक चिन्ह
3. \* प्रश्नवाचक चिन्ह
4. \* विस्मयादिबोधक चिन्ह

Question Number : 192 Question Id : 54592724231 Question Type : MCQ Option Shuffling : Yes  
Correct Marks : 1 Wrong Marks : 0.25

जब दो शब्दों में एक सार्थक और दूसरा निरर्थक हो तब वहाँ लगाया जाता है।

Options :



1. \* उद्धरण चिन्ह
2. ✓ योजक चिन्ह
3. \* प्रश्नवाचक चिन्ह
4. \* विस्मयादिबोधक चिन्ह

Question Number : 193 Question Id : 54592724232 Question Type : MCQ Option Shuffling : Yes  
Correct Marks : 1 Wrong Marks : 0.25

“खुशामदी टट्ट” मुहावरे का क्या अर्थ है?

Options :

1. \* बड़ा काम करना
2. ✓ बड़ाई करने वाला
3. \* बहुत छाती होना
4. \* झमेले में पड़ना

Question Number : 193 Question Id : 54592724232 Question Type : MCQ Option Shuffling : Yes  
Correct Marks : 1 Wrong Marks : 0.25

“खुशामदी टट्टू” मुहावरे का क्या अर्थ है?

Options :

1. \* बड़ा काम करना
2. ✓ बड़ाई करने वाला
3. \* बहुत छाती होना
4. \* झमेले में पड़ना

Question Number : 194 Question Id : 54592724233 Question Type : MCQ Option Shuffling : Yes  
Correct Marks : 1 Wrong Marks : 0.25

जहाँ पर अल्प विराम के प्रयोग से भ्रान्ति होने की सम्भावना हो, वहाँ पर किस चिन्ह का प्रयोग अनिवार्य हो जाता है?

Options :

1. ✓ अर्द्धविराम
2. \* विस्मयादिबोधक
3. \* प्रश्नवाचक

## 4. \* योजक

Question Number : 194 Question Id : 54592724233 Question Type : MCQ Option Shuffling : Yes  
Correct Marks : 1 Wrong Marks : 0.25

जहाँ पर अल्प विराम के प्रयोग से भ्रान्ति होने की सम्भावना हो, वहाँ पर किस चिन्ह का प्रयोग अनिवार्य हो जाता है?

Options :

1. ✓ अर्द्धविराम
2. \* विस्मयादिबोधक
3. \* प्रश्नवाचक
4. \* योजक

Question Number : 195 Question Id : 54592724234 Question Type : MCQ Option Shuffling : Yes  
Correct Marks : 1 Wrong Marks : 0.25

लोकोक्ति “ठंडा लोहा गर्म लोहे को काटता है” का अर्थ है:

Options :

1. ✓ क्रोधी को नम्र शांत कर देता है।
2. \* ठंडा लोहा गर्म लोहे को जल्दी काट देता है।
3. \* एक क्रोधी को दूसरा क्रोधी ही जल्द समझा सकता है।
4. \* दिखावा कुछ और गुण कुछ नहीं।

Question Number : 195 Question Id : 54592724234 Question Type : MCQ Option Shuffling : Yes  
Correct Marks : 1 Wrong Marks : 0.25

लोकोक्ति “ठंडा लोहा गर्म लोहे को काटता है” का अर्थ है:

Options :

1. ✓ क्रोधी को नम्र शांत कर देता है।
2. \* ठंडा लोहा गर्म लोहे को जल्दी काट देता है।
3. \* एक क्रोधी को दूसरा क्रोधी ही जल्द समझा सकता है।
4. \* दिखावा कुछ और गुण कुछ नहीं।

Sub-Section Number:	2
Sub-Section Id:	5459271440
Question Shuffling Allowed :	Yes

Question Id : 54592724235 Question Type : COMPREHENSION Sub Question Shuffling Allowed : Yes Group Comprehension Questions : No

Question Numbers : (196 to 200)

## Question Label : Comprehension

नीचे दिये गये अपठित गद्यांश को पढ़िए और प्रश्न के उत्तर दीजिए।

उत्साह की गिनती अच्छे गुणों में होती है। किसी भाव के अच्छे या बुरे होने का निश्चय अधिकतर उसकी प्रवृत्ति के शुभ या अशुभ परिणाम के विचार से होता है। वही उत्साह जो कर्तव्य कर्मों के प्रति इतना सुन्दर दिखाई पड़ता है। अकर्तव्य कर्मों की ओर होने पर वैसा श्लाघ्य नहीं प्रतीत होता। आत्मरक्षा पर रक्षा, देश रक्षा, आदि के निमित्त साहस की जो उमंग देखी जाती है उसके सौन्दर्य तक परपीड़न, डकैती आदि कर्मों का साहस कभी नहीं पहुँच सकता। यह बात होते हुए भी विशुद्ध उत्साह या साहस की प्रशंसा संसार में थोड़ी बहुत सी होती ही है। अत्याचारियों या डाकुओं के शौर्य और साहस की कथाएँ की भी लोग तारीफ करते हुए सुनते हैं। अब तक उत्साह का प्रधान रूप ही हमारे सामने रहा जिसमें साहस का पूरा योग रहता है। पर कर्म मात्र के सम्पादन में जो तत्परतापूर्ण आनन्द देखा जाता है, यह भी उत्साह ही कहा जाता है। सब कर्मों में साहस अपेक्षित नहीं होता, पर थोड़ा-बहुत आराम, विश्राम, सुभीते इत्यादि का त्याग सबमें करना पड़ता है और कुछ नहीं तो उठकर बैठना, खड़ा होना या दस-पाँच कदम चलना कही पड़ता है। जब तक आनन्द का लगाव किसी क्रिया व्यापार या उसकी भावना के साथ नहीं दिखाई पड़ता तब तक उसे उत्साह की संज्ञा प्राप्त नहीं होती। यदि किसी प्रिय मित्र के आने का समाचार पाकर हम चुपचाप ज्यों के त्यों आनन्दित होकर बैठे रह जाँएँ या थोड़ा हँस भी दें तो हमारा उत्साह नहीं कहा जाएगा। हमारा उत्साह तभी कहा जाएगा, जब हम अपने मित्र का आगमन सुनते ही उठ खड़े होंगे। उससे मिलने के लिए दौड़ पड़ेँगे और उसके ठहरने आदि के प्रबंध में प्रसन्नमुख इधर-उधर आते-जाते दिखाई देंगे। प्रयत्न और कर्म-संकल्प उत्साह नामक आनन्द के नित्य लक्षण है।

Sub questions

Question Number : 196 Question Id : 54592724236 Question Type : MCQ Option Shuffling : Yes

Correct Marks : 1 Wrong Marks : 0.25

उपरोक्त गद्यांश के अनुसार जब तक \_\_\_\_\_ का लगाव किसी क्रिया व्यापार या उसकी भावना के साथ नहीं दिखाई पड़ता तब तक उसे उत्साह की संज्ञा प्राप्त नहीं होती।

Options :

1. \* कार्य
2. \* मित्र
3. \* क्रोध
4. ✓ आनन्द

Question Number : 197 Question Id : 54592724237 Question Type : MCQ Option Shuffling : Yes

Correct Marks : 1 Wrong Marks : 0.25

किस प्रकार के कर्म करने से उत्साह सुन्दर प्रतीत होता है?

Options :

1. \* कठिन
2. \* सरल
3. ✓ कर्तव्य
4. \* अकर्तव्य

Question Number : 198 Question Id : 54592724238 Question Type : MCQ Option Shuffling : Yes

Correct Marks : 1 Wrong Marks : 0.25

कर्म सम्पादन में देखा गया तत्परतापूर्ण आनन्द क्या कहलाता है?

Options :

1. ✓ उत्साह
2. \* वीरता
3. \* शौर्य
4. \* साहस

Question Number : 199 Question Id : 54592724239 Question Type : MCQ Option Shuffling : Yes

Correct Marks : 1 Wrong Marks : 0.25

किसी मित्र से मिलने के लिए दौड़ पड़ना कहलाता है:

Options :

1. \* अच्छे गुण
2. ✓ उत्साह

3. \* औपचारिकता

4. \* सदाचार

Question Number : 200 Question Id : 54592724240 Question Type : MCQ Option Shuffling : Yes

Correct Marks : 1 Wrong Marks : 0.25

गद्यांश का उचित शीर्षक है:

Options :

1. \* साहस

2. ✓ उत्साह का स्वरूप

3. \* सद्गुण

4. \* कर्तव्यपरायणता

Question Id : 54592724235 Question Type : COMPREHENSION Sub Question Shuffling Allowed : Yes Group Comprehension Questions : No

Question Numbers : (196 to 200)

Question Label : Comprehension

नीचे दिये गये अपठित गद्यांश को पढ़िए और प्रश्न के उत्तर दीजिए।

उत्साह की गिनती अच्छे गुणों में होती है। किसी भाव के अच्छे या बुरे होने का निश्चय अधिकतर उसकी प्रवृत्ति के शुभ या अशुभ परिणाम के विचार से होता है। वही उत्साह जो कर्तव्य कर्मों के प्रति इतना सुन्दर दिखाई पड़ता है। अकर्तव्य कर्मों की ओर होने पर वैसा श्लाघ्य नहीं प्रतीत होता। आत्मरक्षा पर रक्षा, देश रक्षा, आदि के निमित्त साहस की जो उमंग देखी जाती है उसके सौन्दर्य तक परपीड़न, डकैती आदि कर्मों का साहस कभी नहीं पहुँच सकता। यह बात होते हुए भी विशुद्ध उत्साह या साहस की प्रशंसा संसार में थोड़ी बहुत सी होती ही है। अत्याचारियों या डाकुओं के शौर्य और साहस की कथाएँ की भी लोग तारीफ करते हुए सुनते हैं। अब तक उत्साह का प्रधान रूप ही हमारे सामने रहा जिसमें साहस का पूरा योग रहता है। पर कर्म मात्र के सम्पादन में जो तत्परतापूर्ण आनन्द देखा जाता है, यह भी उत्साह ही कहा जाता है। सब कर्मों में साहस अपेक्षित नहीं होता, पर थोड़ा-बहुत आराम, विश्राम, सुभीते इत्यादि का त्याग सबमें करना पड़ता है और कुछ नहीं तो उठकर बैठना, खड़ा होना या दस-पाँच कदम चलना कही पड़ता है। जब तक आनन्द का लगाव किसी क्रिया व्यापार या उसकी भावना के साथ नहीं दिखाई पड़ता तब तक उसे उत्साह की संज्ञा प्राप्त नहीं होती। यदि किसी प्रिय मित्र के आने का समाचार पाकर हम चुपचाप ज्यों के त्यों आनन्दित होकर बैठे रह जाँएँ या थोड़ा हँस भी दें तो हमारा उत्साह नहीं कहा जाएगा। हमारा उत्साह तभी कहा जाएगा, जब हम अपने मित्र का आगमन सुनते ही उठ खड़े होंगे। उससे मिलने के लिए दौड़ पड़ेँगे और उसके ठहरने आदि के प्रबंध में प्रसन्नमुख इधर-उधर आते-जाते दिखाई देंगे। प्रयत्न और कर्म-संकल्प उत्साह नामक आनन्द के नित्य लक्षण है।

Sub questions

Question Number : 196 Question Id : 54592724236 Question Type : MCQ Option Shuffling : Yes  
Correct Marks : 1 Wrong Marks : 0.25

उपरोक्त गद्यांश के अनुसार जब तक \_\_\_\_\_ का लगाव किसी क्रिया व्यापार या उसकी भावना के साथ नहीं दिखाई पड़ता तब तक उसे उत्साह की संज्ञा प्राप्त नहीं होती।

Options :

1. ✖ कार्य
2. ✖ मित्र
3. ✖ क्रोध
4. ✔ आनन्द

Question Number : 197 Question Id : 54592724237 Question Type : MCQ Option Shuffling : Yes  
Correct Marks : 1 Wrong Marks : 0.25

किस प्रकार के कर्म करने से उत्साह सुन्दर प्रतीत होता है?

Options :

1. ✖ कठिन
2. ✖ सरल
3. ✔ कर्तव्य
4. ✖ अकर्तव्य

Question Number : 198 Question Id : 54592724238 Question Type : MCQ Option Shuffling : Yes  
Correct Marks : 1 Wrong Marks : 0.25

कर्म सम्पादन में देखा गया तत्परतापूर्ण आनन्द क्या कहलाता है?

Options :

1. ✔ उत्साह
2. ✖ वीरता
3. ✖ शौर्य

## 4. \* साहस

Question Number : 199 Question Id : 54592724239 Question Type : MCQ Option Shuffling : Yes  
Correct Marks : 1 Wrong Marks : 0.25

किसी मित्र से मिलने के लिए दौड़ पड़ना कहलाता है:

Options :

1. \* अच्छे गुण
2. ✓ उत्साह
3. \* औपचारिकता
4. \* सदाचार

Question Number : 200 Question Id : 54592724240 Question Type : MCQ Option Shuffling : Yes  
Correct Marks : 1 Wrong Marks : 0.25

गद्यांश का उचित शीर्षक है:

Options :

1. \* साहस
2. ✓ उत्साह का स्वरूप
3. \* सद्गुण
4. \* कर्तव्यपरायणता