

## Education Consultant India Ltd.

Notations :

1.Options shown in **green** color and with ✓ icon are correct.

2.Options shown in **red** color and with ✖ icon are incorrect.

<b>Question Paper Name:</b>	Lower Division Clerk 16th September 2019 Shift 3
<b>Subject Name:</b>	LOWER DIVISION CLERK
<b>Creation Date:</b>	2019-09-17 10:18:25
<b>Duration:</b>	120
<b>Total Marks:</b>	200
<b>Display Marks:</b>	Yes
<b>Share Answer Key With Delivery Engine:</b>	No
<b>Actual Answer Key:</b>	Yes
<b>Calculator:</b>	None
<b>Magnifying Glass Required?:</b>	No
<b>Ruler Required?:</b>	No
<b>Eraser Required?:</b>	No
<b>Scratch Pad Required?:</b>	No
<b>Rough Sketch/Notepad Required?:</b>	No
<b>Protractor Required?:</b>	No
<b>Show Watermark on Console?:</b>	Yes
<b>Highlighter:</b>	No
<b>Auto Save on Console?:</b>	No

## Mental Ability1

<b>Group Number :</b>	1
<b>Group Id :</b>	5459271671
<b>Group Maximum Duration :</b>	0
<b>Group Minimum Duration :</b>	0
<b>Show Attended Group? :</b>	No
<b>Edit Attended Group? :</b>	No
<b>Break time:</b>	0
<b>Group Marks:</b>	20
<b>Is this Group for Examiner?:</b>	No
<b>Revisit allowed for group Instructions? :</b>	Yes
<b>Maximum Instruction Time:</b>	0
<b>Minimum Instruction Time:</b>	0

## Mental Ability1

<b>Section Id :</b>	5459271671
<b>Section Number :</b>	1

Section type :	Online
Mandatory or Optional:	Mandatory
Number of Questions:	20
Number of Questions to be attempted:	20
Section Marks:	20

Sub-Section Number:	1
Sub-Section Id:	5459272005
Question Shuffling Allowed :	Yes

Question Number : 1 Question Id : 54592733735 Question Type : MCQ Option Shuffling : Yes  
Correct Marks : 1 Wrong Marks : 0.25

Find the missing term in the following letter series:

\_\_\_\_, VT, YW, BZ

Options :

1. \* ST
2. \* PR
3. ✓ SQ
4. \* PQ

Question Number : 1 Question Id : 54592733735 Question Type : MCQ Option Shuffling : Yes  
Correct Marks : 1 Wrong Marks : 0.25

निम्नलिखित अक्षर श्रृंखला में लुप्त पद ज्ञात करें:

\_\_\_\_, VT, YW, BZ

Options :

1. \* ST
2. \* PR
3. ✓ SQ
4. \* PQ

Question Number : 2 Question Id : 54592733736 Question Type : MCQ Option Shuffling : Yes  
Correct Marks : 1 Wrong Marks : 0.25

Find the missing term in the following series:

T4V, \_\_\_\_\_, N12P, K16M

Options :

1. ✖ Q6M
2. ✖ R8P
3. ✖ R10M
4. ✔ Q8S

Question Number : 2 Question Id : 54592733736 Question Type : MCQ Option Shuffling : Yes  
Correct Marks : 1 Wrong Marks : 0.25

निम्नलिखित अक्षर श्रृंखला में लुप्त पद ज्ञात करें:

T4V, \_\_\_\_\_, N12P, K16M

Options :

1. ✖ Q6M
2. ✖ R8P
3. ✖ R10M
4. ✔ Q8S

Question Number : 3 Question Id : 54592733737 Question Type : MCQ Option Shuffling : Yes  
Correct Marks : 1 Wrong Marks : 0.25

Find the wrong term in the following series:

TWZ, QTW, NRT, KNQ, HKN

Options :

1. ✖ HKN
2. ✖ KNQ
3. ✔ NRT

## 4. \* QTW

Question Number : 3 Question Id : 54592733737 Question Type : MCQ Option Shuffling : Yes  
Correct Marks : 1 Wrong Marks : 0.25

निम्नलिखित श्रृंखला में गलत पद ज्ञात करें:

TWZ, QTW, NRT, KNQ, HKN

Options :

1. \* HKN

2. \* KNQ

3. ✓ NRT

4. \* QTW

Question Number : 4 Question Id : 54592733738 Question Type : MCQ Option Shuffling : Yes  
Correct Marks : 1 Wrong Marks : 0.25

Out of the given options, three are similar in a certain manner. However, one option is NOT like the other three. Select the option which is different from the rest.

Options :

1. \* Strawberry

2. ✓ Litchi

3. \* Kiwi

4. \* Apple

Question Number : 4 Question Id : 54592733738 Question Type : MCQ Option Shuffling : Yes  
Correct Marks : 1 Wrong Marks : 0.25

दिए गए विकल्पों में से, तीन एक निश्चित तरीके से समान हैं। हालाँकि, एक विकल्प अन्य तीन की तरह नहीं है। उस विकल्प का चयन करें जो बाकी से अलग है।

Options :

1. ✖ स्ट्रॉबेरी

2. ✔ लीची

3. ✖ कीवी

4. ✖ सेब

Question Number : 5 Question Id : 54592733739 Question Type : MCQ Option Shuffling : Yes  
Correct Marks : 1 Wrong Marks : 0.25

Out of the given options, three are similar in a certain manner. However, one option is NOT like the other three. Select the option which is different from the rest.

Options :

1. ✔ KNS

2. ✖ GJM

3. ✖ ORU

4. ✖ VYB

Question Number : 5 Question Id : 54592733739 Question Type : MCQ Option Shuffling : Yes  
Correct Marks : 1 Wrong Marks : 0.25

दिए गए विकल्पों में से, तीन एक निश्चित तरीके से समान हैं। हालाँकि, एक विकल्प अन्य तीन की तरह नहीं है। उस विकल्प का चयन करें जो बाकी से अलग है।

Options :

1. ✔ KNS

2. ✖ GJM

3. ✖ ORU

4. ✖ VYB

Question Number : 6 Question Id : 54592733740 Question Type : MCQ Option Shuffling : Yes  
Correct Marks : 1 Wrong Marks : 0.25

In the given options 3 pair of words are similarly related and one pair is differently related. Find the pair which is differently related.

Options :

1. ✓ Microscope : Bacteria
2. \* Needle : Sew
3. \* Axe : Chop
4. \* Spade : Dig

Question Number : 6 Question Id : 54592733740 Question Type : MCQ Option Shuffling : Yes

Correct Marks : 1 Wrong Marks : 0.25

दिए गए विकल्पों में 3 शब्दों के जोड़े एकसमान संबंधित हैं और एक जोड़ी अलग तरह से संबंधित है। उस जोड़ी को ज्ञात करें जो अलग तरह से संबंधित है।

Options :

1. ✓ सूक्ष्मदर्शी : जीवाणु
2. \* सुई : सिलाई
3. \* कुल्हाड़ी : काटना
4. \* कुदाल : खोदना

Question Number : 7 Question Id : 54592733741 Question Type : MCQ Option Shuffling : Yes

Correct Marks : 1 Wrong Marks : 0.25

Select the option that is related to the third term on the same basis as the second term is related to the first term.

Poet : Poem :: Author : ?

Options :

1. \* Pen
2. ✓ Book
3. \* Writer

## 4. \* Pages

Question Number : 7 Question Id : 54592733741 Question Type : MCQ Option Shuffling : Yes  
Correct Marks : 1 Wrong Marks : 0.25

उस विकल्प का चयन करें जो तीसरे पद से उसी प्रकार से संबंधित है जिस प्रकार से पहला पद दूसरे पद से संबंधित है।

कवि : कविता :: लेखक : ?

Options :

1. \* कलम
2. ✓ किताब
3. \* लेखक
4. \* पेज

Question Number : 8 Question Id : 54592733742 Question Type : MCQ Option Shuffling : Yes  
Correct Marks : 1 Wrong Marks : 0.25

Select the option that is related to the third term on the same basis as the second term is related to the first term.

HPT : EMQ :: RUD : ?

Options :

1. \* NSB
2. \* PNB
3. ✓ ORA
4. \* NQB

Question Number : 8 Question Id : 54592733742 Question Type : MCQ Option Shuffling : Yes  
Correct Marks : 1 Wrong Marks : 0.25

उस विकल्प का चयन करें जो तीसरे पद से उसी प्रकार से संबंधित है जिस प्रकार से पहला पद दूसरे पद से संबंधित है।

HPT : EMQ :: RUD : ?

Options :

1. ✖ NSB
2. ✖ PNB
3. ✔ ORA
4. ✖ NQB

Question Number : 9 Question Id : 54592733743 Question Type : MCQ Option Shuffling : Yes

Correct Marks : 1 Wrong Marks : 0.25

Select the pair that is related on the same basis to the pair given in the question.

HQW : JTA :: ?

Options :

1. ✔ LTC : NWG
2. ✖ MPD : OXH
3. ✖ DQW : HUA
4. ✖ MHZ : KMA

Question Number : 9 Question Id : 54592733743 Question Type : MCQ Option Shuffling : Yes

Correct Marks : 1 Wrong Marks : 0.25

उस जोड़ी का चयन करें जो उसी आधार पर संबंधित हों, जिस आधार पर सवाल में दी गई जोड़ी संबंधित हैं।

HQW : JTA :: ?

Options :



1. ✓ LTC : NWG

2. ✗ MPD : OXH

3. ✗ DQW : HUA

4. ✗ MHZ : KMA

Question Number : 10 Question Id : 54592733744 Question Type : MCQ Option Shuffling : Yes

Correct Marks : 1 Wrong Marks : 0.25

If in a certain code language DUCK = 20, SCHOOL = 42, BACHELOR = 72, then what is the code for COLLEGE?

Options :

1. ✗ 60

2. ✓ 56

3. ✗ 48

4. ✗ 52

Question Number : 10 Question Id : 54592733744 Question Type : MCQ Option Shuffling : Yes

Correct Marks : 1 Wrong Marks : 0.25

एक निश्चित कोड भाषा में, DUCK = 20, SCHOOL = 42, BACHELOR = 72 है, तो COLLEGE का कोड क्या है?

Options :

1. ✗ 60

2. ✓ 56

3. ✗ 48

4. ✗ 52

Question Number : 11 Question Id : 54592733745 Question Type : MCQ Option Shuffling : Yes

Correct Marks : 1 Wrong Marks : 0.25

If earth is called moon, moon is called land, land is called water, water is called air, air is called grass, grass is called garden, then what do we drink when we are thirsty?

Options :

1. ✓ air
2. ✗ water
3. ✗ grass
4. ✗ garden

Question Number : 11 Question Id : 54592733745 Question Type : MCQ Option Shuffling : Yes  
Correct Marks : 1 Wrong Marks : 0.25

यदि धरती को चंद्रमा कहा जाए, चंद्रमा को जमीन कहा जाए, जमीन को पानी कहा जाए, पानी को हवा कहा जाए, हवा को घास कहा जाए, घास को बगीचा कहा जाए, तो यदि हम प्यासे हैं तो हमें क्या पीयेंगे?

Options :

1. ✓ हवा
2. ✗ पानी
3. ✗ घास
4. ✗ बगीचा

Question Number : 12 Question Id : 54592733746 Question Type : MCQ Option Shuffling : Yes  
Correct Marks : 1 Wrong Marks : 0.25

In a certain code language,  
please don't go there is coded as ta pi ki si  
this is amazing home is coded as fa ri li hi  
please come at home is coded as si ni ji li  
there is party at home is coded as za ni li ri ta  
What is the code for 'home' ?

Options :

1. ✗ ta
2. ✗ si
3. ✓ li
4. ✗ fa

Question Number : 12 Question Id : 54592733746 Question Type : MCQ Option Shuffling : Yes

Correct Marks : 1 Wrong Marks : 0.25

एक निश्चित कोड भाषा में,

please don't go there का कोड है ta pi ki si

this is amazing home का कोड है fa ri li hi

please come at home का कोड है si ni ji li

there is party at home का कोड है za ni li ri ta

'home' का कोड क्या है?

Options :

1. ✖ ta

2. ✖ si

3. ✔ li

4. ✖ fa

Question Number : 13 Question Id : 54592733747 Question Type : MCQ Option Shuffling : Yes

Correct Marks : 1 Wrong Marks : 0.25

Four friends — F, G, H and J are playing carom. F is sitting to J's immediate right. H is sitting to G's immediate left. Who is sitting exactly opposite F?

Options :

1. ✖ J

2. ✔ G

3. ✖ H

4. ✖ J or H

Question Number : 13 Question Id : 54592733747 Question Type : MCQ Option Shuffling : Yes

Correct Marks : 1 Wrong Marks : 0.25

चार दोस्त - F, G, H और J कैरम खेल रहे हैं। F, J के एकदम बगल में दाईं ओर बैठा है। H, G के एकदम बगल में बाएं बैठा है। F के ठीक विपरीत कौन बैठा है?

Options :

1. ✖ J
2. ✔ G
3. ✖ H
4. ✖ J या H

Question Number : 14 Question Id : 54592733748 Question Type : MCQ Option Shuffling : Yes  
Correct Marks : 1 Wrong Marks : 0.25

Read the information given below. Assume everything given here to be true even if it is in variance from facts in real life and answer the question that follows.

A teacher weighed five students — Daya, Jaya, Mala, Renu and Lata. And found that:

Daya weighed one kg more than Renu.  
Jaya weighed three kg less than Lata.  
Mala weighed two kg more than Jaya.  
Renu weighed five kg less than Lata.

Which among these statements is NOT correct with regards to the information given above?

Options :

1. ✖ Jaya is heavier than Renu.
2. ✖ Mala is lighter than Lata.
3. ✔ Daya is heavier than Jaya.

#### 4. \* Renu is lighter than Daya.

Question Number : 14 Question Id : 54592733748 Question Type : MCQ Option Shuffling : Yes  
Correct Marks : 1 Wrong Marks : 0.25

नीचे दी गई जानकारी पढ़ें। यहां दी गई हर बात को सच मान लें, भले ही वह वास्तविक जीवन में तथ्यों से भिन्न हो और उस प्रश्न का उत्तर दे।

एक शिक्षक ने पांच छात्रों का वजन किया - दया, जया, माला, रेणु और लता और पाया कि:

दया का वजन रेणु से एक kg अधिक था।

जया का वजन लता से तीन kg कम था।

माला का वजन जया से दो kg अधिक था।

रेणु का वजन लता से पांच kg कम था।

ऊपर दिए गए कथन की जानकारी के मुताबिक इनमें से कौन सा सही नहीं है?

Options :

1. \* जया का वजन रेणु से अधिक है।
2. \* माला का वजन लता से हल्का है।
3. ✓ दया का वजन जया से अधिक है।
4. \* रेणु का वजन दया से हल्का है।

Question Number : 15 Question Id : 54592733749 Question Type : MCQ Option Shuffling : Yes  
Correct Marks : 1 Wrong Marks : 0.25

Out of the given options, three are similar in a certain manner. However, one option is NOT like the other three. Select the option which is different from the rest.

Options :

1. \* Proteins
2. ✓ Nutrients
3. \* Carbohydrates
4. \* Fats

Question Number : 15 Question Id : 54592733749 Question Type : MCQ Option Shuffling : Yes

Correct Marks : 1 Wrong Marks : 0.25

दिए गए विकल्पों में से, तीन एक निश्चित तरीके से समान हैं। हालाँकि, एक विकल्प अन्य तीन की तरह नहीं है। उस विकल्प का चयन करें जो बाकी से अलग है।

Options :

1. \* प्रोटीन
2. ✓ पोषक तत्व
3. \* कार्बोहाइड्रेट
4. \* वसा

Question Number : 16 Question Id : 54592733750 Question Type : MCQ Option Shuffling : Yes

Correct Marks : 1 Wrong Marks : 0.25

Select the option that arranges the words given below in the most appropriate and meaningful sequence.

1. Fruit
2. Sapling
3. Juice
4. Seed
5. Tree

Options :

1. \* 2 - 4 - 5 - 1 - 3

2. \* 2 - 3 - 1 - 4 - 5

3. ✓ 4 - 2 - 5 - 1 - 3

4. \* 1 - 3 - 4 - 5 - 2

Question Number : 16 Question Id : 54592733750 Question Type : MCQ Option Shuffling : Yes

Correct Marks : 1 Wrong Marks : 0.25

नीचे दिए गए शब्दों को सबसे उपयुक्त और सार्थक अनुक्रम में व्यवस्थित करने वाले विकल्प का चयन करें।

1. Fruit

2. Sapling

3. Juice

4. Seed

5. Tree

Options :

1. \* 2 - 4 - 5 - 1 - 3

2. \* 2 - 3 - 1 - 4 - 5

3. ✓ 4 - 2 - 5 - 1 - 3

4. \* 1 - 3 - 4 - 5 - 2

Question Number : 17 Question Id : 54592733751 Question Type : MCQ Option Shuffling : Yes

Correct Marks : 1 Wrong Marks : 0.25

Analyse the given information and answer the question that follows.

The criteria for selecting a sales officer in a pharmaceutical company have been given as under:

The candidate must:

1. Be a graduate in any stream with at least 50% marks.
2. Be a post-graduate in sales and marketing with 50% marks
3. Be more than 21 years old and less than 30 years old on the date of application

The following exceptions apply if a candidate has:

- A. Scored less than 50% marks in either graduation or post-graduation but has completed a certificate course in Digital Marketing. Subject to fulfilling all other requirements, such a candidate will be referred to General Manager, Marketing
- B. Fulfilled all other criteria but is more than 30 years old but less than 35 years old will be referred to VP, Human Resources.

Himmat Singh is a Science graduate with 54% and post-graduation in Sales and Marketing Management with 43% marks. He is 28 years of age. Last year, he completed a certificate course in Digital Marketing.

What decision should be taken about this candidate?

Options :

1. \* The candidate should be selected.
2. \* The candidate should be rejected.



3. ✓ The candidate should be referred to the General Manager, Marketing.

4. ✖ The candidate should be referred to the VP, Human Resources.

Question Number : 17 Question Id : 54592733751 Question Type : MCQ Option Shuffling : Yes  
Correct Marks : 1 Wrong Marks : 0.25

दी गई जानकारी का विश्लेषण करें और उस प्रश्न का उत्तर दें जो निम्न प्रकार है।

किसी दवा कंपनी में बिक्री अधिकारी के चयन के मापदंड निम्नानुसार हैं:

उम्मीदवार को चाहिए:

1. कम से कम 50% अंकों के साथ किसी भी स्ट्रीम में स्नातक हो।
2. 50% अंकों के साथ बिक्री और विपणन में स्नातकोत्तर हो
3. आवेदन की तिथि 21 वर्ष से अधिक और 30 वर्ष से कम हो

यदि उम्मीदवार के पास निम्नलिखित अपवाद लागू होते हैं:

A. स्नातक या स्नातकोत्तर में 50% से कम अंक हासिल किए, लेकिन डिजिटल मार्केटिंग में सर्टिफिकेट कोर्स पूरा किया। अन्य सभी आवश्यकताओं को पूरा करने के अधीन, ऐसे उम्मीदवार को महाप्रबंधक, विपणन के लिए भेजा जाएगा।

B. अन्य सभी मानदंडों को पूरा किया लेकिन 30 वर्ष से अधिक उम्र का है, लेकिन 35 वर्ष से कम आयु के लोगों को वाइस प्रेसीडेंट, मानव संसाधन के लिए भेजा जाएगा।

हिम्मत सिंह 54% के साथ विज्ञान स्नातक और 43% अंकों के साथ बिक्री तथा विपणन प्रबंधन में स्नातकोत्तर हैं। उसकी उम्र 28 साल है। पिछले साल उसने डिजिटल मार्केटिंग में सर्टिफिकेट कोर्स पूरा किया।

इस उम्मीदवार के बारे में क्या निर्णय लिया जाना चाहिए?

Options :

1. \* उम्मीदवार का चयन होना चाहिए।

2. ✖ उम्मीदवार को खारिज कर दिया जाना चाहिए।
3. ✔ उम्मीदवार को महाप्रबंधक, विपणन के पास भेजा जाना चाहिए।
4. ✖ उम्मीदवार को VP, मानव संसाधन के पास भेजा जाना चाहिए।

Question Number : 18 Question Id : 54592733752 Question Type : MCQ Option Shuffling : Yes  
Correct Marks : 1 Wrong Marks : 0.25

In this question, two statements have been given followed by two conclusions numbered I and II. Assuming that all information in the statement is true, analyse the two conclusions together and determine whether any of them logically and definitely follow(s) from the information given in the statement.

Statements:

- I. All caps are gloves.
- II. Some gloves are shoes.

Conclusions:

- I. Some shoes are caps.
- II. Some shoes are gloves.

Options :

1. ✖ Only conclusion I follows
2. ✔ Only conclusion II follows
3. ✖ Both I and II follow
4. ✖ Neither I nor II follows

Question Number : 18 Question Id : 54592733752 Question Type : MCQ Option Shuffling : Yes  
Correct Marks : 1 Wrong Marks : 0.25

इस प्रश्न में, दो कथन I और II के दो निष्कर्ष दिए गए हैं। यह मानते हुए कि कथन में सभी जानकारी सत्य हैं, दो निष्कर्षों का एक साथ विश्लेषण करें और निर्धारित करें कि कथन में दी गई जानकारी में से कोई भी तार्किक रूप से और निश्चित रूप से अनुसरण करता है।

कथन:

- I. सभी टोपियां दस्ताने हैं।
- II. कुछ दस्ताने जूते हैं।

निष्कर्ष:

- I. कुछ जूते कैप हैं।
- II. कुछ जूते दस्ताने हैं।

Options :

1. \* केवल निष्कर्ष I अनुसरण करता है
2. ✓ केवल निष्कर्ष II अनुसरण करता है
3. \* दोनों निष्कर्ष I और II अनुसरण करते हैं
4. \* न तो I और न ही II अनुसरण करता है

Question Number : 19 Question Id : 54592733753 Question Type : MCQ Option Shuffling : Yes  
Correct Marks : 1 Wrong Marks : 0.25

In this question, a statement has been given, followed by two assumptions numbered I and II. Analyse the two assumptions together and determine which of them is/are implicit in the statement.

Statements: Read a lot if you want to be read.

Assumptions:

I. If you want to go for higher education, you need to read a lot of books.

II. There is no use reading a lot of different books as they are all saying the same thing.

Options :

1. ✖ Only assumption I is implicit.
2. ✖ Only assumption II is implicit.
3. ✔ Neither assumption I nor assumption II is implicit.
4. ✖ Both the assumptions are implicit.

Question Number : 19 Question Id : 54592733753 Question Type : MCQ Option Shuffling : Yes

Correct Marks : 1 Wrong Marks : 0.25

इस प्रश्न में, एक कथन दिया गया है, जिसके बाद I और II की दो धारणाएँ हैं। एक साथ दोनों धारणाओं का विश्लेषण करें और निर्धारित करें कि उनमें से कौन सा/से कथन में निहित है।

कथन: यदि आप पढ़ना चाहते हैं तो बहुत कुछ पढ़ें।

धारणाएँ:

- I. यदि आप उच्च शिक्षा के लिए जाना चाहते हैं, तो आपको बहुत सी किताबें पढ़ने की आवश्यकता है।
- II. बहुत सारी विभिन्न पुस्तकों को पढ़ने का कोई फायदा नहीं है क्योंकि वे सभी एक ही बात कह रहे हैं।

Options :

1. \* केवल धारणा I निहित है।
2. \* केवल धारणा II निहित है।
3. ✓ न तो धारणा I और न ही धारणा II निहित है।
4. \* दोनों धारणाएँ निहित हैं।

Question Number : 20 Question Id : 54592733754 Question Type : MCQ Option Shuffling : Yes

Correct Marks : 1 Wrong Marks : 0.25

Complete the following number series:

26, 33, 41, 50, \_\_\_\_\_

Options :

1. \* 58
2. \* 62
3. ✓ 60
4. \* 64

Question Number : 20 Question Id : 54592733754 Question Type : MCQ Option Shuffling : Yes  
Correct Marks : 1 Wrong Marks : 0.25

निम्नलिखित संख्या श्रृंखला को पूरा करें:

26, 33, 41, 50, \_\_\_\_\_

Options :

1. ✘ 58

2. ✘ 62

3. ✔ 60

4. ✘ 64

## Mental Ability2

Group Number :	2
Group Id :	5459271672
Group Maximum Duration :	0
Group Minimum Duration :	0
Show Attended Group? :	No
Edit Attended Group? :	No
Break time:	0
Group Marks:	20
Is this Group for Examiner? :	No
Revisit allowed for group Instructions? :	Yes
Maximum Instruction Time:	0
Minimum Instruction Time:	0

## Mental Ability2

Section Id :	5459271672
Section Number :	1
Section type :	Online
Mandatory or Optional:	Mandatory
Number of Questions:	20
Number of Questions to be attempted:	20
Section Marks:	20

Sub-Section Number:	1
Sub-Section Id:	5459272006

Question Number : 21 Question Id : 54592733755 Question Type : MCQ Option Shuffling : Yes

Correct Marks : 1 Wrong Marks : 0.25

Find the wrong number in the following number series:

10, 22, 34, 48, 58

Options :

1. ✖ 22

2. ✖ 34

3. ✔ 48

4. ✖ 58

Question Number : 21 Question Id : 54592733755 Question Type : MCQ Option Shuffling : Yes

Correct Marks : 1 Wrong Marks : 0.25

निम्नलिखित संख्या श्रृंखला में से गलत संख्या ज्ञात करें:

10, 22, 34, 48, 58

Options :

1. ✖ 22

2. ✖ 34

3. ✔ 48

4. ✖ 58

Question Number : 22 Question Id : 54592733756 Question Type : MCQ Option Shuffling : Yes

Correct Marks : 1 Wrong Marks : 0.25

Select the option that is related to the third number on the same basis as the second number is related to the first number.

26 : 78 :: 34 : ?

Options :



1. ✓ 102

2. ✗ 112

3. ✗ 136

4. ✗ 142

Question Number : 22 Question Id : 54592733756 Question Type : MCQ Option Shuffling : Yes  
Correct Marks : 1 Wrong Marks : 0.25

उस विकल्प का चयन करें जो तीसरी संख्या से उसी प्रकार से संबंधित है जिस प्रकार से पहली संख्या दूसरी संख्या से संबंधित है।

26 : 78 :: 34 : ?

Options :

1. ✓ 102

2. ✗ 112

3. ✗ 136

4. ✗ 142

Question Number : 23 Question Id : 54592733757 Question Type : MCQ Option Shuffling : Yes  
Correct Marks : 1 Wrong Marks : 0.25

Select the option that is related to the third number on the same basis as the second number is related to the first number.

7 : 340 :: 6 : ?

Options :

1. ✓ 213

2. ✗ 216

3. ✗ 219

4. ✗ 222

Question Number : 23 Question Id : 54592733757 Question Type : MCQ Option Shuffling : Yes

Correct Marks : 1 Wrong Marks : 0.25

उस विकल्प का चयन करें जो तीसरी संख्या से उसी प्रकार से संबंधित है जिस प्रकार से पहली संख्या दूसरी संख्या से संबंधित है।

7 : 340 :: 6 : ?

Options :

1. ✓ 213

2. ✗ 216

3. ✗ 219

4. ✗ 222

Question Number : 24 Question Id : 54592733758 Question Type : MCQ Option Shuffling : Yes

Correct Marks : 1 Wrong Marks : 0.25

Find the missing number in the following number series.

96, 64,  $128/3$ , \_\_\_\_\_,  $512/27$

Options :

1. ✗  $243/9$

2. ✗  $281/9$

3. ✗  $221/9$

4. ✓  $256/9$

Question Number : 24 Question Id : 54592733758 Question Type : MCQ Option Shuffling : Yes

Correct Marks : 1 Wrong Marks : 0.25

निम्नलिखित संख्या श्रृंखला में लुप्त संख्या को ज्ञात करें।

96, 64,  $128/3$ , \_\_\_\_\_,  $512/27$

Options :

1. ✖ 243/9

2. ✖ 281/9

3. ✖ 221/9

4. ✔ 256/9

Question Number : 25 Question Id : 54592733759 Question Type : MCQ Option Shuffling : Yes

Correct Marks : 1 Wrong Marks : 0.25

Find the missing number in the following number series.

120, 210, \_\_\_\_\_, 405, 510, 620

Options :

1. ✖ 306

2. ✖ 315

3. ✔ 305

4. ✖ 320

Question Number : 25 Question Id : 54592733759 Question Type : MCQ Option Shuffling : Yes

Correct Marks : 1 Wrong Marks : 0.25

निम्नलिखित संख्या श्रृंखला में लुप्त संख्या को ज्ञात करें।

120, 210, \_\_\_\_\_, 405, 510, 620

Options :

1. ✖ 306

2. ✖ 315

3. ✔ 305

4. ✖ 320

Question Number : 26 Question Id : 54592733760 Question Type : MCQ Option Shuffling : Yes

Correct Marks : 1 Wrong Marks : 0.25

If  $(15 + x) > (20 - y)$ , then which among the following is true?

Options :

1. ✖  $(x + y) < 5$
2. ✖  $(x - y) > 3$
3. ✔  $(x + y) > 5$
4. ✖  $(x - y) < 3$

Question Number : 26 Question Id : 54592733760 Question Type : MCQ Option Shuffling : Yes

Correct Marks : 1 Wrong Marks : 0.25

यदि  $(15 + x) > (20 - y)$  है, तो निम्नलिखित में से कौन सा सत्य है?

Options :

1. ✖  $(x + y) < 5$
2. ✖  $(x - y) > 3$
3. ✔  $(x + y) > 5$
4. ✖  $(x - y) < 3$

Question Number : 27 Question Id : 54592733761 Question Type : MCQ Option Shuffling : Yes

Correct Marks : 1 Wrong Marks : 0.25

A cyclist knows six different routes from A to B. From B to C he knows three different routes and from C to D he knows five different routes. How many routes does he know from A to D?

Options :

1. ✖ 45
2. ✖ 15
3. ✔ 90
4. ✖ 20

Question Number : 27 Question Id : 54592733761 Question Type : MCQ Option Shuffling : Yes

Correct Marks : 1 Wrong Marks : 0.25

एक साइकिल चालक A से B तक के छह विभिन्न मार्गों को जानता है।

B से C तक वह तीन विभिन्न मार्गों को जानता है और C से D तक वह पाँच विभिन्न मार्गों को जानता है। वह A से D तक कितने मार्गों को जानता है?

Options :

1. ✖ 45

2. ✖ 15

3. ✔ 90

4. ✖ 20

Question Number : 28 Question Id : 54592733762 Question Type : MCQ Option Shuffling : Yes

Correct Marks : 1 Wrong Marks : 0.25

In a party the eight people present all shake hands with each other once. How many handshakes will there be altogether?

Options :

1. ✖ 400

2. ✖ 36

3. ✖ 250

4. ✔ 28

Question Number : 28 Question Id : 54592733762 Question Type : MCQ Option Shuffling : Yes

Correct Marks : 1 Wrong Marks : 0.25

एक पार्टी में सभी आठ लोग एक बार एक दूसरे से हाथ मिलाते हैं।

कुल मिलाकर कितने हाथ मिलाना होगा?

Options :

1. ✖ 400

2. ✖ 36

3. ✖ 250

4. ✓ 28

Question Number : 29 Question Id : 54592733763 Question Type : MCQ Option Shuffling : Yes  
Correct Marks : 1 Wrong Marks : 0.25

Which two numbers should be interchanged to make the below equation mathematically correct?

$$16 \times 5 - 70 \div 2 + 100 = 100$$

Options :

1. ✗ 5, 2
2. ✓ 70, 100
3. ✗ 5, 100
4. ✗ 16, 70

Question Number : 29 Question Id : 54592733763 Question Type : MCQ Option Shuffling : Yes  
Correct Marks : 1 Wrong Marks : 0.25

नीचे दिए गए समीकरण को गणितीय रूप से सही बनाने के लिए किन दो संख्याओं को परस्पर स्थानांतरित किया जाना चाहिए?

$$16 \times 5 - 70 \div 2 + 100 = 100$$

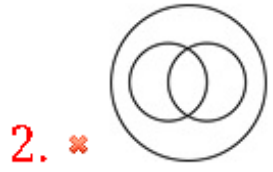
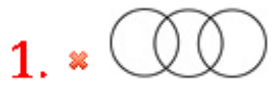
Options :

1. ✗ 5, 2
2. ✓ 70, 100
3. ✗ 5, 100
4. ✗ 16, 70

Question Number : 30 Question Id : 54592733764 Question Type : MCQ Option Shuffling : Yes  
Correct Marks : 1 Wrong Marks : 0.25

Which of the following Venn diagrams best represents the relationship between cats, mammals and pets?

Options :



Question Number : 30 Question Id : 54592733764 Question Type : MCQ Option Shuffling : Yes

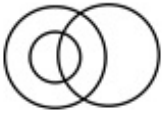
Correct Marks : 1 Wrong Marks : 0.25

निम्नलिखित में से कौन सा वेन आरेख बिल्लियों, स्तनधारियों और पालतू जानवरों के बीच के संबंध को सबसे अच्छा दर्शाता है?

Options :

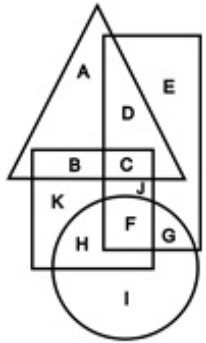


4. ✓



Question Number : 31 Question Id : 54592733765 Question Type : MCQ Option Shuffling : Yes  
 Correct Marks : 1 Wrong Marks : 0.25

In the following figure, square represents joggers, triangle represents Scientists, circle represents Indians and rectangle represents mothers. Which set of letters represents mothers who are joggers?

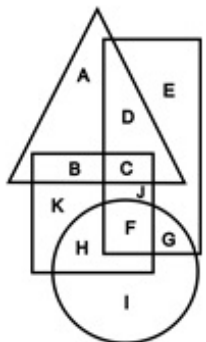


Options :

1. ✗ DC
2. ✗ BC
3. ✓ CJF
4. ✗ FGH

Question Number : 31 Question Id : 54592733765 Question Type : MCQ Option Shuffling : Yes  
 Correct Marks : 1 Wrong Marks : 0.25

निम्नलिखित आकृति में, वर्ग जॉगर्स को दर्शाता है, त्रिकोण वैज्ञानिकों को दर्शाता है, वृत्त भारतीयों को दर्शाता है और आयत माताओं को दर्शाता है। अक्षरों का कौन सा सेट माताओं को दर्शाता जो जॉगर्स हैं?



Options :



1. ✖ DC
2. ✖ BC
3. ✔ CJF
4. ✖ FGH

Question Number : 32 Question Id : 54592733766 Question Type : MCQ Option Shuffling : Yes  
Correct Marks : 1 Wrong Marks : 0.25

Padma came out of her house to perform pooja. From the door, she walked 10 steps straight to reach the Tulsi plant. She offered water and turned CW 270 degrees and prayed to the rising Sun. Which direction was Padma facing when she came out of her house?

Options :

1. ✖ North
2. ✔ South
3. ✖ East
4. ✖ West

Question Number : 32 Question Id : 54592733766 Question Type : MCQ Option Shuffling : Yes  
Correct Marks : 1 Wrong Marks : 0.25

पद्मा पूजा करने के लिए अपने घर से निकलती हैं। दरवाजे से, वह सीधे तुलसी के पौधे तक पहुँचने के लिए 10 कदम चलती हैं। उसने पानी की पेशकश की और CW 270 डिग्री पर बदल दिया और उगते सूर्य की प्रार्थना की। पद्मा किस दिशा में थी जब वह अपने घर से निकली?

Options :

1. ✖ उत्तर
2. ✔ दक्षिण

3. \* पूर्व

4. \* पश्चिम

Question Number : 33 Question Id : 54592733767 Question Type : MCQ Option Shuffling : Yes

Correct Marks : 1 Wrong Marks : 0.25

In this question, two statements are given followed by an inference. Analyse the statements and the inference and determine whether the given inference can be drawn from the statements.

Statements:

- I. Most good singers are also good dancers.
- II. Shaheen is a good singer.

Inference: Shaheen is a good dancer.

Options :

1. \* The given inference is definitely true.
2. \* The given inference is definitely false.
3. ✓ The given inference could be true or false.
4. \* This inference cannot be drawn from the given statements.

Question Number : 33 Question Id : 54592733767 Question Type : MCQ Option Shuffling : Yes

Correct Marks : 1 Wrong Marks : 0.25

इस प्रश्न में, दो कथनों के बाद एक अनुमान लगाया जाता है। कथनों और अनुमानों का विश्लेषण करें और निर्धारित करें कि दिए गए अनुमानों को कथनों से निकाला जा सकता है या नहीं।

कथन:

- I. अधिकांश अच्छे गायक अच्छे नर्तक भी होते हैं।
- II. शाहीन एक अच्छी गायिका हैं।

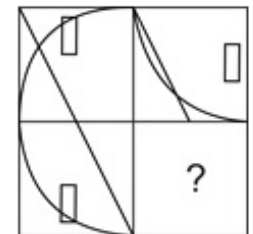
अनुमान: शाहीन एक अच्छी नर्तक है।

Options :

1. \* दिया गया अनुमान सत्य है।
2. \* दिया गया अनुमान निश्चित रूप से असत्य है।
3. ✓ दिया गया अनुमान सत्य या असत्य हो सकता है।
4. \* यह अनुमान दिए गए कथन में लागू नहीं होता

Question Number : 34 Question Id : 54592733768 Question Type : MCQ Option Shuffling : Yes  
Correct Marks : 1 Wrong Marks : 0.25

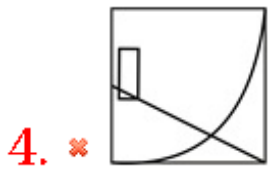
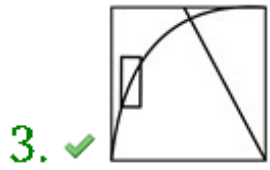
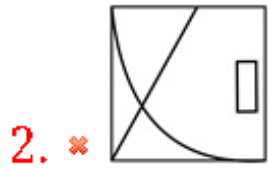
Which answer figure will complete the pattern in the question figure?



Options :

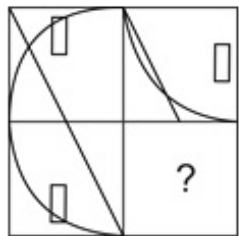


1. \*

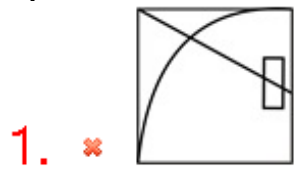


Question Number : 34 Question Id : 54592733768 Question Type : MCQ Option Shuffling : Yes  
Correct Marks : 1 Wrong Marks : 0.25

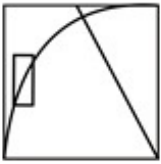
कौन सी उत्तर आकृति प्रश्न आकृति के पैटर्न को पूरा करेगी?



Options :



3. ✓



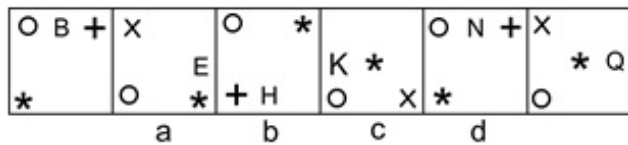
4. ✗



Question Number : 35 Question Id : 54592733769 Question Type : MCQ Option Shuffling : Yes

Correct Marks : 1 Wrong Marks : 0.25

Which of the following options is the wrong figure in the series?



Options :

1. ✓ A

2. ✗ B

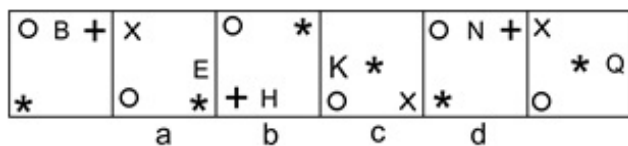
3. ✗ C

4. ✗ D

Question Number : 35 Question Id : 54592733769 Question Type : MCQ Option Shuffling : Yes

Correct Marks : 1 Wrong Marks : 0.25

निम्नलिखित में से कौन सी विकल्प श्रृंखला में गलत आकृति है?



Options :

1. ✓ A

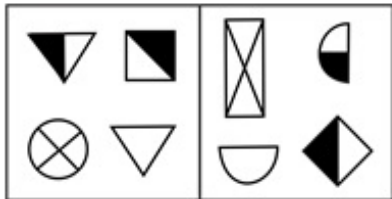
2. ✗ B

3. ✖ C

4. ✖ D

Question Number : 36 Question Id : 54592733770 Question Type : MCQ Option Shuffling : Yes  
Correct Marks : 1 Wrong Marks : 0.25

Figures given in which of the options is most similar to the two figures given in the question?

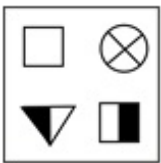


Options :

1. ✖



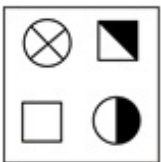
2. ✔



3. ✖

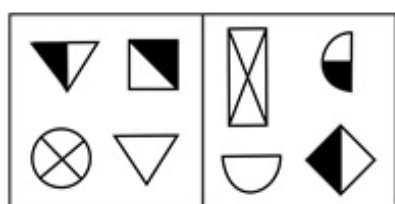


4. ✖

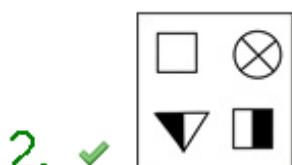


Question Number : 36 Question Id : 54592733770 Question Type : MCQ Option Shuffling : Yes  
Correct Marks : 1 Wrong Marks : 0.25

किस विकल्प में दी गई आकृतियाँ प्रश्न में दी गई दो आकृतियों से सबसे अधिक समानता रखती हैं?



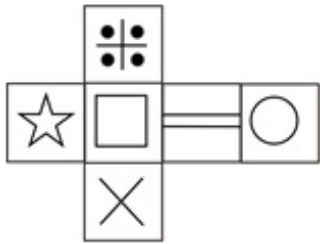
Options :



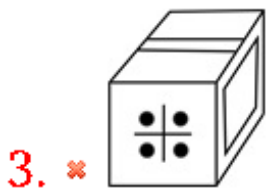
Question Number : 37 Question Id : 54592733771 Question Type : MCQ Option Shuffling : Yes

Correct Marks : 1 Wrong Marks : 0.25

Which of the following cubes in the answer figure CANNOT be made based on the unfolded cube in the question figure?



Options :

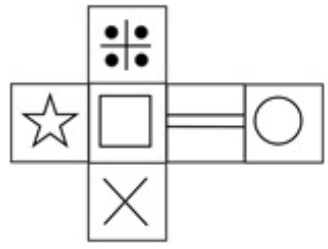


Question Number : 37 Question Id : 54592733771 Question Type : MCQ Option Shuffling : Yes

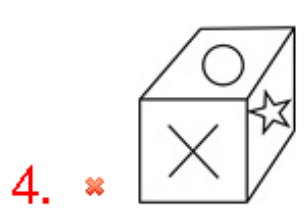
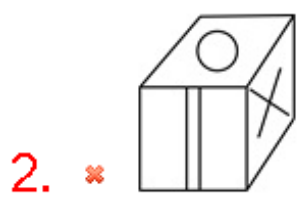
Correct Marks : 1 Wrong Marks : 0.25



उत्तर आकृति में किस घन को प्रश्न आकृति में प्रकट घन के आधार पर नहीं बनाया जा सकता?

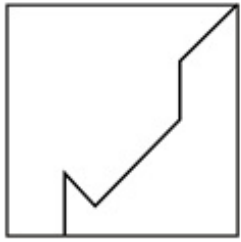


Options :

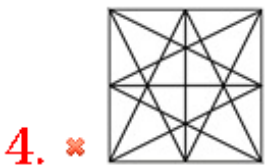
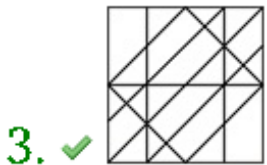
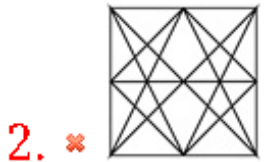
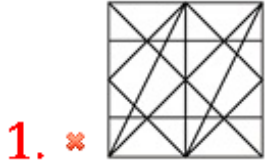


Question Number : 38 Question Id : 54592733772 Question Type : MCQ Option Shuffling : Yes Correct Marks : 1 Wrong Marks : 0.25

From the given answer figures, select the one in which the question figure is hidden/embedded.

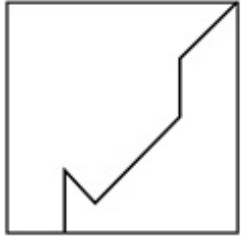


Options :

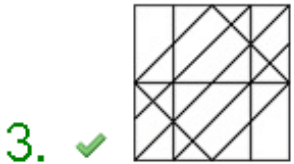


Question Number : 38 Question Id : 54592733772 Question Type : MCQ Option Shuffling : Yes  
Correct Marks : 1 Wrong Marks : 0.25

दी गई उत्तर आकृतियों में से, उस एक का चयन करें जिसमें प्रश्न आकृति निहित है।

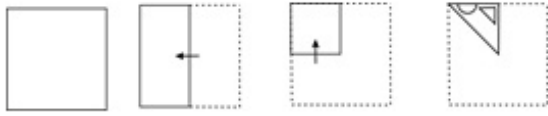


Options :

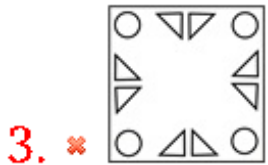
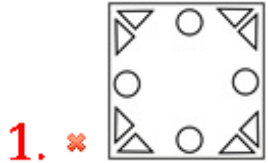


Question Number : 39 Question Id : 54592733773 Question Type : MCQ Option Shuffling : Yes  
Correct Marks : 1 Wrong Marks : 0.25

A piece of paper is folded and punched as shown below in the question figures. From the given answer figures, indicate how it will appear when opened.



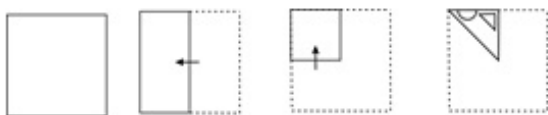
Options :



Question Number : 39 Question Id : 54592733773 Question Type : MCQ Option Shuffling : Yes

Correct Marks : 1 Wrong Marks : 0.25

प्रश्न आकृति में नीचे दिखाए अनुसार पेपर के टुकड़े को मोड़कर उसमें छेद किए गए हैं। दी गई उत्तर आकृतियों से, इंगित करें कि इसे खोले जाने पर यह कैसा दिखाई देगा।



Options :

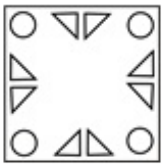
1. ✘



2. ✘



3. ✘

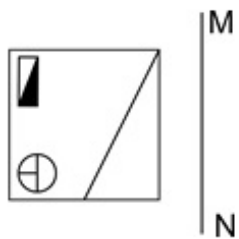


4. ✔



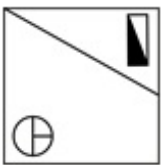
Question Number : 40 Question Id : 54592733774 Question Type : MCQ Option Shuffling : Yes  
Correct Marks : 1 Wrong Marks : 0.25

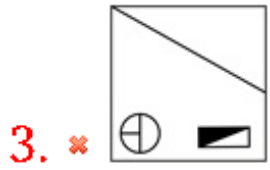
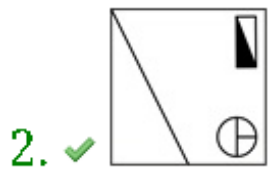
If a mirror is placed on the line MN, then which of the answer figures will be the right mirror image of the given figure?



Options :

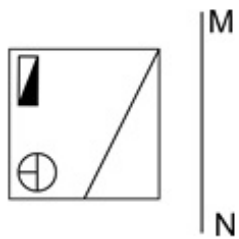
1. ✘



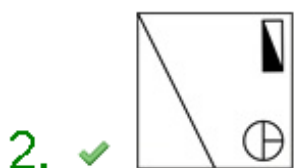
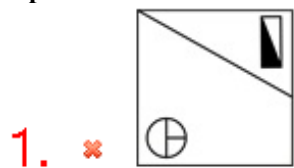


Question Number : 40 Question Id : 54592733774 Question Type : MCQ Option Shuffling : Yes  
 Correct Marks : 1 Wrong Marks : 0.25

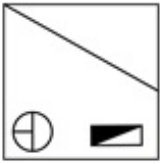
यदि एक दर्पण को रेखा MN पर रखा गया है, तो कौन सी उत्तर आकृति दी गई आकृति का सही दर्पण प्रतिबिंब होगी?



Options :



3. ✖



4. ✖



## General Awareness1

<b>Group Number :</b>	3
<b>Group Id :</b>	5459271673
<b>Group Maximum Duration :</b>	0
<b>Group Minimum Duration :</b>	0
<b>Show Attended Group? :</b>	No
<b>Edit Attended Group? :</b>	No
<b>Break time:</b>	0
<b>Group Marks:</b>	20
<b>Is this Group for Examiner?:</b>	No
<b>Revisit allowed for group Instructions? :</b>	Yes
<b>Maximum Instruction Time:</b>	0
<b>Minimum Instruction Time:</b>	0

## General Awareness1

<b>Section Id :</b>	5459271673
<b>Section Number :</b>	1
<b>Section type :</b>	Online
<b>Mandatory or Optional:</b>	Mandatory
<b>Number of Questions:</b>	20
<b>Number of Questions to be attempted:</b>	20
<b>Section Marks:</b>	20

<b>Sub-Section Number:</b>	1
<b>Sub-Section Id:</b>	5459272007
<b>Question Shuffling Allowed :</b>	Yes

Question Number : 41 Question Id : 54592733775 Question Type : MCQ Option Shuffling : Yes  
Correct Marks : 1 Wrong Marks : 0.25

\_\_\_\_\_ is performed to honour the gods 'Lok Devtas' as a thanks giving ritual in Jammu and Kashmir.

Options :

1. ✖ Dumhal
2. ✔ Kud
3. ✖ Bayaalata
4. ✖ Namgen

Question Number : 41 Question Id : 54592733775 Question Type : MCQ Option Shuffling : Yes

Correct Marks : 1 Wrong Marks : 0.25

\_\_\_\_\_ जम्मू और कश्मीर में धन्यवाद देने वाले अनुष्ठान के रूप में 'लोक देवता' का सम्मान करने के लिए किया जाता है।

Options :

1. ✖ दुम्हाल
2. ✔ कुद
3. ✖ बायालता
4. ✖ नामजेन

Question Number : 42 Question Id : 54592733776 Question Type : MCQ Option Shuffling : Yes

Correct Marks : 1 Wrong Marks : 0.25

Which among the following festival is not a harvest festival?

Options :

1. ✖ Onam
2. ✖ Hareli
3. ✖ Naukhai
4. ✔ Durga Puja

Question Number : 42 Question Id : 54592733776 Question Type : MCQ Option Shuffling : Yes

Correct Marks : 1 Wrong Marks : 0.25

निम्नलिखित में से कौन सा त्योहार फसल त्योहार नहीं है?

Options :



1. ✖ ओणम
2. ✖ हरेली
3. ✖ नौखई
4. ✔ दुर्गा पूजा

Question Number : 43 Question Id : 54592733777 Question Type : MCQ Option Shuffling : Yes  
Correct Marks : 1 Wrong Marks : 0.25

With which of the following states is Bhatiali folk song related to?

Options :

1. ✖ Maharashtra
2. ✔ West Bengal
3. ✖ Assam
4. ✖ Rajasthan

Question Number : 43 Question Id : 54592733777 Question Type : MCQ Option Shuffling : Yes  
Correct Marks : 1 Wrong Marks : 0.25

निम्नलिखित में से किस राज्य के साथ भटियाली लोक गीत संबंधित है?

Options :

1. ✖ महाराष्ट्र
2. ✔ पश्चिम बंगाल
3. ✖ असम
4. ✖ राजस्थान

Question Number : 44 Question Id : 54592733778 Question Type : MCQ Option Shuffling : Yes  
Correct Marks : 1 Wrong Marks : 0.25

\_\_\_\_\_ is a type of religious songs often sung to a newly wed bride or to an unmarried girl, who is expected to get married in near future in Himachal Pradesh.

Options :

1. ✖ Jhoori
2. ✔ Ainchaliyan
3. ✖ Birha
4. ✖ Kajari

Question Number : 44 Question Id : 54592733778 Question Type : MCQ Option Shuffling : Yes  
Correct Marks : 1 Wrong Marks : 0.25

\_\_\_\_\_ हिमाचल प्रदेश में एक प्रकार का धार्मिक गीत है जिसे अक्सर एक नवविवाहित दुल्हन या एक अविवाहित लड़की के लिए गाया जाता है, जिसकी निकट भविष्य में शादी होने की उम्मीद है।

Options :

1. ✖ झूरी
2. ✔ आंचलियाँ
3. ✖ बिरहा
4. ✖ कजरी

Question Number : 45 Question Id : 54592733779 Question Type : MCQ Option Shuffling : Yes  
Correct Marks : 1 Wrong Marks : 0.25

What is the current (as of June 2019) bank rate set by Reserve Bank of India?

Options :

1. ✖ 0.0575
2. ✖ 0.0525
3. ✔ 0.06
4. ✖ 0.0625

Question Number : 45 Question Id : 54592733779 Question Type : MCQ Option Shuffling : Yes  
Correct Marks : 1 Wrong Marks : 0.25

भारतीय रिज़र्व बैंक द्वारा निर्धारित वर्तमान (जून 2019 तक) बैंक दर क्या है?

Options :

1. ✘ 0.0575
2. ✘ 0.0525
3. ✔ 0.06
4. ✘ 0.0625

Question Number : 46 Question Id : 54592733780 Question Type : MCQ Option Shuffling : Yes  
Correct Marks : 1 Wrong Marks : 0.25

What is the current (as of June 2019) cash reserve ratio set by Reserve Bank of India?

Options :

1. ✘ 0.0525
2. ✘ 0.0425
3. ✘ 0.05
4. ✔ 0.04

Question Number : 46 Question Id : 54592733780 Question Type : MCQ Option Shuffling : Yes  
Correct Marks : 1 Wrong Marks : 0.25

भारतीय रिज़र्व बैंक द्वारा निर्धारित वर्तमान (जून 2019 तक) नकद आरक्षित अनुपात क्या है?

Options :

1. ✘ 0.0525
2. ✘ 0.0425
3. ✘ 0.05
4. ✔ 0.04

Question Number : 47 Question Id : 54592733781 Question Type : MCQ Option Shuffling : Yes  
Correct Marks : 1 Wrong Marks : 0.25

Who changed the time of budget presentation from 5 PM to 11 AM in 1999?

Options :

1. ✖ P. Chidambaram
2. ✔ Yashwant Sinha
3. ✖ Morarji Desai
4. ✖ R. K. Shanmukam Chetty

Question Number : 47 Question Id : 54592733781 Question Type : MCQ Option Shuffling : Yes  
Correct Marks : 1 Wrong Marks : 0.25

1999 में बजट प्रस्तुति का समय शाम 5 बजे से सुबह 11 बजे तक किसने बदला था?

Options :

1. ✖ पी. चिदंबरम
2. ✔ यशवंत सिन्हा
3. ✖ मोरारजी देसाई
4. ✖ आर. के. शनमुखम चेट्टी

Question Number : 48 Question Id : 54592733782 Question Type : MCQ Option Shuffling : Yes  
Correct Marks : 1 Wrong Marks : 0.25

\_\_\_\_\_ is the energy that is trapped inside each atom.

Options :

1. ✖ Thermal Energy
2. ✔ Nuclear Energy
3. ✖ Mechanical Energy
4. ✖ Electrical Energy

Question Number : 48 Question Id : 54592733782 Question Type : MCQ Option Shuffling : Yes  
Correct Marks : 1 Wrong Marks : 0.25

\_\_\_\_\_ वह ऊर्जा है जो प्रत्येक परमाणु के अंदर होती है।

Options :

1. ✖ तापीय ऊर्जा
2. ✔ परमाणु ऊर्जा

3. \* यांत्रिक ऊर्जा

4. \* विद्युत ऊर्जा

Question Number : 49 Question Id : 54592733783 Question Type : MCQ Option Shuffling : Yes

Correct Marks : 1 Wrong Marks : 0.25

\_\_\_\_\_ is an example of a metalloid.

Options :

1. \* Iron

2. \* Lithium

3. ✓ Silicon

4. \* Hydrogen

Question Number : 49 Question Id : 54592733783 Question Type : MCQ Option Shuffling : Yes

Correct Marks : 1 Wrong Marks : 0.25

\_\_\_\_\_ एक उपधातु का एक उदाहरण है।

Options :

1. \* लोहा

2. \* लिथियम

3. ✓ सिलिकॉन

4. \* हाइड्रोजन

Question Number : 50 Question Id : 54592733784 Question Type : MCQ Option Shuffling : Yes

Correct Marks : 1 Wrong Marks : 0.25

\_\_\_\_\_ is the plant from which biodiesel is produced.

Options :

1. \* Eucalyptus

2. \* Indigo

3. ✓ Jatropha

4. \* Cinchona

Question Number : 50 Question Id : 54592733784 Question Type : MCQ Option Shuffling : Yes

Correct Marks : 1 Wrong Marks : 0.25

\_\_\_\_\_ वह पौधा है जिससे बायोडीजल का उत्पादन किया जाता है।

Options :

1. ✖ निलगिरी
2. ✖ इंडिगो
3. ✔ जत्रोफा
4. ✖ सिनकोना

Question Number : 51 Question Id : 54592733785 Question Type : MCQ Option Shuffling : Yes  
Correct Marks : 1 Wrong Marks : 0.25

\_\_\_\_\_ are commonly known as sea walnuts.

Options :

1. ✔ Ctenophora
2. ✖ Platyhelminthes
3. ✖ Aschelminthes
4. ✖ Annelida

Question Number : 51 Question Id : 54592733785 Question Type : MCQ Option Shuffling : Yes  
Correct Marks : 1 Wrong Marks : 0.25

\_\_\_\_\_ को आमतौर पर समुद्री अखरोट (सी वॉलनट) के रूप में जाना जाता है।

Options :

1. ✔ टेनोफोरा
2. ✖ प्लैटीहेल्मिन्थेस
3. ✖ असचेल्मिन्थेस
4. ✖ एनेलिडा

Question Number : 52 Question Id : 54592733786 Question Type : MCQ Option Shuffling : Yes  
Correct Marks : 1 Wrong Marks : 0.25

Animals belonging to phylum \_\_\_\_\_ are fundamentally characterised by the presence of a notochord, a dorsal hollow nerve cord and paired pharyngeal gill slits.

Options :

1. ✓ Chordate
2. \* Hemichordate
3. \* Echinodermata
4. \* Anthropoda

Question Number : 52 Question Id : 54592733786 Question Type : MCQ Option Shuffling : Yes

Correct Marks : 1 Wrong Marks : 0.25

संघ (फ़ायलम) \_\_\_\_\_ से संबंधित जानवरों की मूल रूप से एक नोटोकॉर्ड, एक पृष्ठीय खोखली तंत्रिका कॉर्ड और युग्मित फरयंगेअल गिल स्लिट्स की उपस्थिति विशेषता है।

Options :

1. ✓ रज्जुकी
2. \* हेमीकोर्डेटा
3. \* एकाइनोडर्माटा
4. \* सन्धिपाद

Question Number : 53 Question Id : 54592733787 Question Type : MCQ Option Shuffling : Yes

Correct Marks : 1 Wrong Marks : 0.25

When was the Environment (Protection) Act enacted?

Options :

1. \* 1982
2. \* 1972
3. \* 1990
4. ✓ 1986

Question Number : 53 Question Id : 54592733787 Question Type : MCQ Option Shuffling : Yes

Correct Marks : 1 Wrong Marks : 0.25

पर्यावरण (संरक्षण) अधिनियम कब लागू किया गया था?

Options :

1. ✖ 1982
2. ✖ 1972
3. ✖ 1990
4. ✔ 1986

Question Number : 54 Question Id : 54592733788 Question Type : MCQ Option Shuffling : Yes

Correct Marks : 1 Wrong Marks : 0.25

When was the Wildlife (Protection) Act enacted?

Options :

1. ✖ 1975
2. ✖ 1968
3. ✔ 1972
4. ✖ 1980

Question Number : 54 Question Id : 54592733788 Question Type : MCQ Option Shuffling : Yes

Correct Marks : 1 Wrong Marks : 0.25

वन्यजीव (संरक्षण) अधिनियम कब लागू किया गया था?

Options :

1. ✖ 1975
2. ✖ 1968
3. ✔ 1972
4. ✖ 1980

Question Number : 55 Question Id : 54592733789 Question Type : MCQ Option Shuffling : Yes

Correct Marks : 1 Wrong Marks : 0.25

When did the Prime Minister launch the Swachh Bharat Mission?

Options :



1. ✓ 2nd October 2014
2. ✘ 2nd October 2015
3. ✘ 2nd October 2016
4. ✘ 2nd October 2013

Question Number : 55 Question Id : 54592733789 Question Type : MCQ Option Shuffling : Yes  
Correct Marks : 1 Wrong Marks : 0.25

प्रधानमंत्री ने स्वच्छ भारत अभियान कब शुरू किया?

Options :

1. ✓ 2 अक्टूबर 2014
2. ✘ 2 अक्टूबर 2015
3. ✘ 2 अक्टूबर 2016
4. ✘ 2 अक्टूबर 2013

Question Number : 56 Question Id : 54592733790 Question Type : MCQ Option Shuffling : Yes  
Correct Marks : 1 Wrong Marks : 0.25

Narmada river rises to the summit of \_\_\_\_\_ hill in Madhya Pradesh.

Options :

1. ✘ Tapovan
2. ✘ Naghijiri
3. ✓ Amarkantak
4. ✘ Maikal

Question Number : 56 Question Id : 54592733790 Question Type : MCQ Option Shuffling : Yes  
Correct Marks : 1 Wrong Marks : 0.25

मध्य प्रदेश में नर्मदा नदी \_\_\_\_\_ पहाड़ी के शिखर तक बढ़ जाती है।

Options :

1. ✘ तपोवन

2. ✖ नागझिरी
3. ✔ अमरकंटक
4. ✖ मैकल

Question Number : 57 Question Id : 54592733791 Question Type : MCQ Option Shuffling : Yes  
Correct Marks : 1 Wrong Marks : 0.25

Guru Shikhar is the highest point of \_\_\_\_\_ range.

Options :

1. ✖ Himalaya
2. ✔ Aravalli
3. ✖ Purvanchal
4. ✖ Vindhaya

Question Number : 57 Question Id : 54592733791 Question Type : MCQ Option Shuffling : Yes  
Correct Marks : 1 Wrong Marks : 0.25

गुरु शिखर \_\_\_\_\_ पर्वतमाला का उच्चतम बिंदु है।

Options :

1. ✖ हिमालय
2. ✔ अरावली
3. ✖ पूर्वांचल
4. ✖ विंध्य

Question Number : 58 Question Id : 54592733792 Question Type : MCQ Option Shuffling : Yes  
Correct Marks : 1 Wrong Marks : 0.25

\_\_\_\_\_ is the deepest trench known on Earth.

Options :

1. ✔ Mariana Trench
2. ✖ Puerto Rico Trench
3. ✖ Java Trench
4. ✖ Tonga Trench

Question Number : 58 Question Id : 54592733792 Question Type : MCQ Option Shuffling : Yes  
Correct Marks : 1 Wrong Marks : 0.25

\_\_\_\_\_ पृथ्वी पर ज्ञात सबसे गहरी खाई है।

Options :

1. ✓ मारियाना गर्त
2. ✗ पुएर्टोरीको गर्त
3. ✗ जावा गर्त
4. ✗ टोंगा गर्त

Question Number : 59 Question Id : 54592733793 Question Type : MCQ Option Shuffling : Yes  
Correct Marks : 1 Wrong Marks : 0.25

The Strait of Hormuz connects the Gulf of Oman and the \_\_\_\_\_.

Options :

1. ✗ Gulf of Aden
2. ✓ Persian Gulf
3. ✗ Gulf of Mexico
4. ✗ Gulf of Kutch

Question Number : 59 Question Id : 54592733793 Question Type : MCQ Option Shuffling : Yes  
Correct Marks : 1 Wrong Marks : 0.25

होर्मुज जलडमरूमध्य ओमान की खाड़ी और \_\_\_\_\_ को जोड़ती है।

Options :

1. ✗ अदन की खाड़ी
2. ✓ फारस की खाड़ी
3. ✗ मेक्सिको की खाड़ी
4. ✗ कच्छ की खाड़ी

Question Number : 60 Question Id : 54592733794 Question Type : MCQ Option Shuffling : Yes  
Correct Marks : 1 Wrong Marks : 0.25

Which among the following crops is not an example of Rabi crop?

Options :

1. ✖ Wheat
2. ✔ Rice
3. ✖ Barley
4. ✖ Mustard

Question Number : 60 Question Id : 54592733794 Question Type : MCQ Option Shuffling : Yes

Correct Marks : 1 Wrong Marks : 0.25

निम्नलिखित में से कौन सी फसल रबी की फसल का उदाहरण नहीं है?

Options :

1. ✖ गेहूँ
2. ✔ चावल
3. ✖ जौ
4. ✖ सरसों

## General Awareness2

Group Number :	4
Group Id :	5459271674
Group Maximum Duration :	0
Group Minimum Duration :	0
Show Attended Group? :	No
Edit Attended Group? :	No
Break time:	0
Group Marks:	20
Is this Group for Examiner?:	No
Revisit allowed for group Instructions? :	Yes
Maximum Instruction Time:	0
Minimum Instruction Time:	0

## General Awareness2

Section Id :	5459271674
Section Number :	1
Section type :	Online

Mandatory or Optional:	Mandatory
Number of Questions:	20
Number of Questions to be attempted:	20
Section Marks:	20

Sub-Section Number:	1
Sub-Section Id:	5459272008
Question Shuffling Allowed :	Yes

Question Number : 61 Question Id : 54592733795 Question Type : MCQ Option Shuffling : Yes  
Correct Marks : 1 Wrong Marks : 0.25

Which among the following countries has the largest border line with India?

Options :

1. \* China
2. \* Afghanistan
3. ✓ Bangladesh
4. \* Pakistan

Question Number : 61 Question Id : 54592733795 Question Type : MCQ Option Shuffling : Yes  
Correct Marks : 1 Wrong Marks : 0.25

निम्नलिखित में से किस देश की भारत के साथ सबसे बड़ी सीमा रेखा है?

Options :

1. \* चीन
2. \* अफ़ग़ानिस्तान
3. ✓ बांग्लादेश
4. \* पाकिस्तान

Question Number : 62 Question Id : 54592733796 Question Type : MCQ Option Shuffling : Yes  
Correct Marks : 1 Wrong Marks : 0.25

\_\_\_\_\_ is the first discovered site of Indus Valley Civilization excavated in 1921.

Options :

1. ✓ Harappa
2. ✘ Allahdino
3. ✘ Mohenjo-daro
4. ✘ Alamgirpur

Question Number : 62 Question Id : 54592733796 Question Type : MCQ Option Shuffling : Yes  
Correct Marks : 1 Wrong Marks : 0.25

\_\_\_\_\_ 1921 में खुदाई की गई सिंधु घाटी सभ्यता का पहला खोजा गया स्थल है।

Options :

1. ✓ हड़प्पा
2. ✘ अल्लाहदीनो
3. ✘ मोहन जोदड़ो
4. ✘ आलमगीरपुर

Question Number : 63 Question Id : 54592733797 Question Type : MCQ Option Shuffling : Yes  
Correct Marks : 1 Wrong Marks : 0.25

\_\_\_\_\_ was the capital of Maurya Dynasty.

Options :

1. ✘ Rajgir
2. ✘ Kanchipuram
3. ✘ Puhar
4. ✓ Pataliputra

Question Number : 63 Question Id : 54592733797 Question Type : MCQ Option Shuffling : Yes  
Correct Marks : 1 Wrong Marks : 0.25

\_\_\_\_\_ मौर्य राजवंश की राजधानी थी।

Options :

1. ✘ राजगीर
2. ✘ कांचीपुरम

3. ✖ पुहार

4. ✔ पाटलिपुत्र

Question Number : 64 Question Id : 54592733798 Question Type : MCQ Option Shuffling : Yes

Correct Marks : 1 Wrong Marks : 0.25

Gandhiji led the famous Dandi March from Sabarmati Ashram near Ahmedabad on \_\_\_\_\_.

Options :

1. ✖ 17th March 1928

2. ✖ 15th May 1935

3. ✖ 16th April 1932

4. ✔ 12th March 1930

Question Number : 64 Question Id : 54592733798 Question Type : MCQ Option Shuffling : Yes

Correct Marks : 1 Wrong Marks : 0.25

गांधीजी ने \_\_\_\_\_ को अहमदाबाद के पास साबरमती आश्रम से प्रसिद्ध दांडी मार्च का नेतृत्व किया था।

Options :

1. ✖ 17 मार्च 1928

2. ✖ 15 मई 1935

3. ✖ 16 अप्रैल 1932

4. ✔ 12 मार्च 1930

Question Number : 65 Question Id : 54592733799 Question Type : MCQ Option Shuffling : Yes

Correct Marks : 1 Wrong Marks : 0.25

What was the original name of Babur?

Options :

1. ✔ Zaheeruddin Mohammed

2. ✖ Naseeruddin Mohammed

3. ✖ Jalaluddin Mohammed

## 4. \* Nooruddin Salim

Question Number : 65 Question Id : 54592733799 Question Type : MCQ Option Shuffling : Yes  
Correct Marks : 1 Wrong Marks : 0.25

बाबर का मूल नाम क्या था?

Options :

1. ✓ जहीरुद्दीन मोहम्मद
2. \* नसीरुद्दीन मोहम्मद
3. \* जलाल उद्दीन मोहम्मद
4. \* नूरुद्दीन सलीम

Question Number : 66 Question Id : 54592733800 Question Type : MCQ Option Shuffling : Yes  
Correct Marks : 1 Wrong Marks : 0.25

During the tenure of \_\_\_\_\_, the Second Anglo-Sikh War was fought.

Options :

1. \* Lord Bentick
2. \* Lord Hastings
3. \* Lord Curzon
4. ✓ Lord Dalhousie

Question Number : 66 Question Id : 54592733800 Question Type : MCQ Option Shuffling : Yes  
Correct Marks : 1 Wrong Marks : 0.25

\_\_\_\_\_ के कार्यकाल के दौरान, दूसरा आंग्ल-सिख युद्ध लड़ा गया था।

Options :

1. \* लॉर्ड बेंटिक
2. \* लॉर्ड हेस्टिंग्स
3. \* लॉर्ड कर्जन
4. ✓ लॉर्ड डलहौजी

Question Number : 67 Question Id : 54592733801 Question Type : MCQ Option Shuffling : Yes  
Correct Marks : 1 Wrong Marks : 0.25



The famous Bibi ka Maqbara at Aurangabad was constructed in the memory of \_\_\_\_\_.

Options :

1. \* Mumtaj Mahal
2. \* Jahan Ara
3. ✓ Rabia-ud-Daurani
4. \* Noor Jahan

Question Number : 67 Question Id : 54592733801 Question Type : MCQ Option Shuffling : Yes

Correct Marks : 1 Wrong Marks : 0.25

औरंगाबाद में प्रसिद्ध बीबी का मकबरा का निर्माण \_\_\_\_\_ की स्मृति में किया गया था।

Options :

1. \* मुमताज महल
2. \* जहान आरा
3. ✓ राबिया-उद-दुरानी
4. \* नूरजहाँ

Question Number : 68 Question Id : 54592733802 Question Type : MCQ Option Shuffling : Yes

Correct Marks : 1 Wrong Marks : 0.25

She is best known for being the first woman president of the UN General Assembly. She served as the president of the Indian National Congress twice. Who is she?

Options :

1. ✓ Vijaya Lakshmi Pandit
2. \* Sonia Gandhi
3. \* Indira Gandhi
4. \* Annie Besant

Question Number : 68 Question Id : 54592733802 Question Type : MCQ Option Shuffling : Yes

Correct Marks : 1 Wrong Marks : 0.25

वह संयुक्त राष्ट्र महासभा की पहली महिला अध्यक्ष होने के लिए सर्वाधिक जानी जाती हैं। उन्होंने दो बार भारतीय राष्ट्रीय कांग्रेस के अध्यक्ष के रूप में कार्य किया। वह कौन हैं?

Options :

1. ✓ विजया लक्ष्मी पंडित
2. ✘ सोनिया गांधी
3. ✘ इंदिरा गांधी
4. ✘ एनी बेसेंट

Question Number : 69 Question Id : 54592733803 Question Type : MCQ Option Shuffling : Yes

Correct Marks : 1 Wrong Marks : 0.25

\_\_\_\_\_ was the first person to be awarded Arjuna Award for Archery.

Options :

1. ✓ Krishan Das
2. ✘ Deepika Kumari
3. ✘ Tarundeep Rai
4. ✘ Dola Banerjee

Question Number : 69 Question Id : 54592733803 Question Type : MCQ Option Shuffling : Yes

Correct Marks : 1 Wrong Marks : 0.25

\_\_\_\_\_ धनुर्विद्या के लिए अर्जुन पुरस्कार से सम्मानित होने वाले पहले व्यक्ति थे।

Options :

1. ✓ कृष्ण दास
2. ✘ दीपिका कुमारी
3. ✘ तरुणदीप राय
4. ✘ डोला बनर्जी

Question Number : 70 Question Id : 54592733804 Question Type : MCQ Option Shuffling : Yes  
Correct Marks : 1 Wrong Marks : 0.25

Kailash Satyarthi received the Nobel prize in 2014 for his contribution in the field of \_\_\_\_\_.

Options :

1. \* Physics
2. ✓ Peace
3. \* Literature
4. \* Medicine

Question Number : 70 Question Id : 54592733804 Question Type : MCQ Option Shuffling : Yes  
Correct Marks : 1 Wrong Marks : 0.25

कैलाश सत्यार्थी को 2014 में \_\_\_\_\_ के क्षेत्र में उनके योगदान के लिए नोबेल पुरस्कार मिला।

Options :

1. \* भौतिकी
2. ✓ शांति
3. \* साहित्य
4. \* दवा

Question Number : 71 Question Id : 54592733805 Question Type : MCQ Option Shuffling : Yes  
Correct Marks : 1 Wrong Marks : 0.25

Who was the author of "The Secret of Nagas"?

Options :

1. \* Amitav Ghosh
2. \* Amit Chaudhuri
3. \* Amartya Sen
4. ✓ Amish Tripathi

Question Number : 71 Question Id : 54592733805 Question Type : MCQ Option Shuffling : Yes  
Correct Marks : 1 Wrong Marks : 0.25

"द सीक्रेट ऑफ नागाज" के लेखक कौन थे?

Options :

1. \* अमिताभ घोष
2. \* अमित चौधरी
3. \* अमर्त्य सेन
4. ✓ अमीष त्रिपाठी

Question Number : 72 Question Id : 54592733806 Question Type : MCQ Option Shuffling : Yes

Correct Marks : 1 Wrong Marks : 0.25

Who among the following is the Secretary General of World Wide Fund for nature-India?

Options :

1. ✓ Ravi Singh
2. \* Ajay Banga
3. \* Yassin AL Suroor
4. \* Sunil Bharti Mittal

Question Number : 72 Question Id : 54592733806 Question Type : MCQ Option Shuffling : Yes

Correct Marks : 1 Wrong Marks : 0.25

निम्नलिखित में से कौन प्रकृति के लिए विश्वव्यापी निधि (वर्ल्ड वाइड फण्ड फॉर नेचर)-इंडिया का महासचिव है?

Options :

1. ✓ रवि सिंह
2. \* अजय बंगा
3. \* यासिन अल सुरूर
4. \* सुनील भारती मित्तल

Question Number : 73 Question Id : 54592733807 Question Type : MCQ Option Shuffling : Yes

Correct Marks : 1 Wrong Marks : 0.25

When was the Reserve Bank of India nationalised?

Options :

1. \* 1955

2. ✖ 1957

3. ✖ 1952

4. ✔ 1949

Question Number : 73 Question Id : 54592733807 Question Type : MCQ Option Shuffling : Yes  
Correct Marks : 1 Wrong Marks : 0.25

भारतीय रिजर्व बैंक का राष्ट्रीयकरण कब किया गया था?

Options :

1. ✖ 1955

2. ✖ 1957

3. ✖ 1952

4. ✔ 1949

Question Number : 74 Question Id : 54592733808 Question Type : MCQ Option Shuffling : Yes  
Correct Marks : 1 Wrong Marks : 0.25

What is the maximum duration for which a Lok Sabha/State Legislature may function from the date appointed for its first meeting?

Options :

1. ✖ 10 years

2. ✖ 3 years

3. ✖ 1 year

4. ✔ 5 years

Question Number : 74 Question Id : 54592733808 Question Type : MCQ Option Shuffling : Yes  
Correct Marks : 1 Wrong Marks : 0.25

जिसके लिए लोकसभा/राज्य विधानमंडल अपनी पहली बैठक के लिए नियुक्त तिथि से अधिकतम अवधि क्या हो सकती है?

Options :

1. ✖ 10 साल

2. ✖ 3 वर्ष

3. ✖ 1 वर्ष

4. ✔ 5 वर्ष

Question Number : 75 Question Id : 54592733809 Question Type : MCQ Option Shuffling : Yes  
Correct Marks : 1 Wrong Marks : 0.25

Which among the following articles specifies the number of seats for the Lok Sabha?

Options :

1. ✖ 80

2. ✔ 81

3. ✖ 56

4. ✖ 51

Question Number : 75 Question Id : 54592733809 Question Type : MCQ Option Shuffling : Yes  
Correct Marks : 1 Wrong Marks : 0.25

निम्नलिखित में से कौन सा कानून लोकसभा की सीटों की संख्या को निर्दिष्ट करता है?

Options :

1. ✖ 80

2. ✔ 81

3. ✖ 56

4. ✖ 51

Question Number : 76 Question Id : 54592733810 Question Type : MCQ Option Shuffling : Yes  
Correct Marks : 1 Wrong Marks : 0.25

\_\_\_\_\_ Constitutional Amendment increased the retirement age of high court judges from 60 years to 62 years.

Options :

1. ✔ 15th

2. ✖ 14th

3. ✖ 20th

4. ✖ 10th

Question Number : 76 Question Id : 54592733810 Question Type : MCQ Option Shuffling : Yes  
Correct Marks : 1 Wrong Marks : 0.25

\_\_\_\_\_ संवैधानिक संशोधन ने उच्च न्यायालय के न्यायाधीशों की सेवानिवृत्ति की आयु 60 वर्ष से बढ़ाकर 62 वर्ष कर दी।

Options :

1. ✔ 15 वे

2. ✖ 14 वे

3. ✖ 20 वे

4. ✖ 10 वे

Question Number : 77 Question Id : 54592733811 Question Type : MCQ Option Shuffling : Yes  
Correct Marks : 1 Wrong Marks : 0.25

What is the age of retirement of a judge of High court?

Options :

1. ✔ 62 years

2. ✖ 65 years

3. ✖ 68 years

4. ✖ 60 years

Question Number : 77 Question Id : 54592733811 Question Type : MCQ Option Shuffling : Yes  
Correct Marks : 1 Wrong Marks : 0.25

उच्च न्यायालय के न्यायाधीश की सेवानिवृत्ति की आयु क्या है?

Options :

1. ✔ 62 साल

2. ✖ 65 वर्ष

3. ✖ 68 वर्ष

4. \* 60 वर्ष

Question Number : 78 Question Id : 54592733812 Question Type : MCQ Option Shuffling : Yes  
Correct Marks : 1 Wrong Marks : 0.25

\_\_\_\_\_ won the Pro Kabaddi League Season 6 of 2018.

Options :

1. \* Gujarat Fortune Giants
2. \* Jaipur Pink Panthers
3. \* Patna Pirates
4. ✓ Bengaluru Bulls

Question Number : 78 Question Id : 54592733812 Question Type : MCQ Option Shuffling : Yes  
Correct Marks : 1 Wrong Marks : 0.25

\_\_\_\_\_ ने 2018 का प्रो कबड्डी लीग सीजन 6 जीता।

Options :

1. \* गुजरात फॉर्च्यून जायंट्स
2. \* जयपुर पिंक पैंथर्स
3. \* पटना पाइरेट्स
4. ✓ बैंगलुरु बुल्स

Question Number : 79 Question Id : 54592733813 Question Type : MCQ Option Shuffling : Yes  
Correct Marks : 1 Wrong Marks : 0.25

Who won the Women's Singles Title in Madrid Open tennis 2019?

Options :

1. ✓ Kiki Bertens
2. \* Simona Halep
3. \* Naomi Osaka
4. \* Ashleigh Barty

Question Number : 79 Question Id : 54592733813 Question Type : MCQ Option Shuffling : Yes  
Correct Marks : 1 Wrong Marks : 0.25



मैट्रिड ओपन टेनिस 2019 में महिला एकल का खिताब किसने जीता?

Options :

1. ✓ किकी बर्टेस
2. ✗ सिमोना हालेप
3. ✗ नाओमी ओसाका
4. ✗ एशले बार्टी

Question Number : 80 Question Id : 54592733814 Question Type : MCQ Option Shuffling : Yes

Correct Marks : 1 Wrong Marks : 0.25

India finished its campaign at the Cologne Boxing World Cup 2019 with \_\_\_ medals.

Options :

1. ✗ 7
2. ✓ 5
3. ✗ 9
4. ✗ 2

Question Number : 80 Question Id : 54592733814 Question Type : MCQ Option Shuffling : Yes

Correct Marks : 1 Wrong Marks : 0.25

भारत ने \_\_\_\_\_ पदक के साथ कोलोन बॉक्सिंग विश्व कप 2019 में अपना अभियान समाप्त किया।

Options :

1. ✗ 7
2. ✓ 5
3. ✗ 9
4. ✗ 2

Group Number :	5
Group Id :	5459271675
Group Maximum Duration :	0
Group Minimum Duration :	0
Show Attended Group? :	No
Edit Attended Group? :	No
Break time:	0
Group Marks:	20
Is this Group for Examiner?:	No
Revisit allowed for group Instructions? :	Yes
Maximum Instruction Time:	0
Minimum Instruction Time:	0

## Arithmetic Ability1

Section Id :	5459271675
Section Number :	1
Section type :	Online
Mandatory or Optional:	Mandatory
Number of Questions:	20
Number of Questions to be attempted:	20
Section Marks:	20

Sub-Section Number:	1
Sub-Section Id:	5459272009
Question Shuffling Allowed :	Yes

Question Number : 81 Question Id : 54592733815 Question Type : MCQ Option Shuffling : Yes  
Correct Marks : 1 Wrong Marks : 0.25

Which number when tripled will be exactly divisible by 14, 15 and 16?

Options :

1. ✖ 420
2. ✖ 460
3. ✖ 510
4. ✔ 560

Question Number : 81 Question Id : 54592733815 Question Type : MCQ Option Shuffling : Yes  
Correct Marks : 1 Wrong Marks : 0.25

कौनसी संख्या तीन गुना हो जाने पर 14,15 और 16 से पूर्णतया विभाज्य है।

Options :

1. ✖ 420

2. ✖ 460

3. ✖ 510

4. ✔ 560

Question Number : 82 Question Id : 54592733816 Question Type : MCQ Option Shuffling : Yes  
Correct Marks : 1 Wrong Marks : 0.25

Find the value of:  $\sqrt{((14.7 \div 2.1) \times 14 \div 2)} = ?$

Options :

1. ✔ 7

2. ✖ 8

3. ✖ 9

4. ✖ 10

Question Number : 82 Question Id : 54592733816 Question Type : MCQ Option Shuffling : Yes  
Correct Marks : 1 Wrong Marks : 0.25

$\sqrt{((14.7 \div 2.1) \times 14 \div 2)} = ?$  का मूल्य ज्ञात करें।

Options :

1. ✔ 7

2. ✖ 8

3. ✖ 9

4. ✖ 10

Question Number : 83 Question Id : 54592733817 Question Type : MCQ Option Shuffling : Yes  
Correct Marks : 1 Wrong Marks : 0.25

Find the value of:  $(8 \times 4 \div 2) \div (0 + 2 \times 2) + (9 \div 6 \times 3) = ?$

Options :

1. ✖ 2.5

2. ✖ 5.5

3. ✔ 8.5

4. ✖ 11.5

Question Number : 83 Question Id : 54592733817 Question Type : MCQ Option Shuffling : Yes  
Correct Marks : 1 Wrong Marks : 0.25

$(8 \times 4 \div 2) \div (0 + 2 \times 2) + (9 \div 6 \times 3) = ?$  का मूल्य ज्ञात करें।

Options :

1. ✖ 2.5

2. ✖ 5.5

3. ✔ 8.5

4. ✖ 11.5

Question Number : 84 Question Id : 54592733818 Question Type : MCQ Option Shuffling : Yes  
Correct Marks : 1 Wrong Marks : 0.25

If  $a - b = 5$  and  $a^2 + b^2 = 73$ , then what is the value of  $ab$ ? ( $p^q$  means  $p$  is the base and  $q$  is the exponent.)

Options :

1. ✖ 6

2. ✖ 12

3. ✖ 18

4. ✔ 24

Question Number : 84 Question Id : 54592733818 Question Type : MCQ Option Shuffling : Yes  
Correct Marks : 1 Wrong Marks : 0.25

यदि  $a - b = 5$  और  $a^2 + b^2 = 73$  है, तो  $ab$  का मूल्य क्या है? ( $p^q$  का अर्थ है  $p$  आधार है और  $q$  घातांक है।)

Options :

1. ✖ 6

2. ✖ 12

3. ✖ 18

4. ✔ 24

Question Number : 85 Question Id : 54592733819 Question Type : MCQ Option Shuffling : Yes

Correct Marks : 1 Wrong Marks : 0.25

A 5-digit number 247X8 is divisible by 44. Which digit can replace X?

Options :

1. ✖ 1

2. ✔ 2

3. ✖ 3

4. ✖ 4

Question Number : 85 Question Id : 54592733819 Question Type : MCQ Option Shuffling : Yes

Correct Marks : 1 Wrong Marks : 0.25

247X8 5-अंकीय संख्या 44 से विभाज्य है। इसमें 'X' को कौन सा अंक प्रतिस्थापित कर सकता है?

Options :

1. ✖ 1

2. ✔ 2

3. ✖ 3

4. ✖ 4

Question Number : 86 Question Id : 54592733820 Question Type : MCQ Option Shuffling : Yes

Correct Marks : 1 Wrong Marks : 0.25

The price of 5 chairs is equal to the price of 2 tables. If 5 tables and 10 chairs together cost Rs 2250, then what is the cost of 1 table and 3 chairs?

Options :

1. ✖ Rs 450

2. ✖ Rs 500

3. ✔ Rs 550

4. ✖ Rs 600

Question Number : 86 Question Id : 54592733820 Question Type : MCQ Option Shuffling : Yes

Correct Marks : 1 Wrong Marks : 0.25

5 कुर्सियों की कीमत 2 टेबल की कीमत के बराबर है। यदि 5 टेबल और 10 कुर्सियों को मिला कर कीमत रु. 2250 होती है, तो 1 टेबल और 3 कुर्सियों की कीमत क्या है?

Options :

1. ✖ रु. 450

2. ✖ रु. 500

3. ✔ रु. 550

4. ✖ रु. 600

Question Number : 87 Question Id : 54592733821 Question Type : MCQ Option Shuffling : Yes

Correct Marks : 1 Wrong Marks : 0.25

Find the product of the sum of digits of the smallest 4-digit number divisible by 6 and the sum of digits of the smallest 5-digit number divisible by 11.

Options :

1. ✖ 4

2. ✖ 5

3. ✔ 6

4. ✖ 7

Question Number : 87 Question Id : 54592733821 Question Type : MCQ Option Shuffling : Yes

Correct Marks : 1 Wrong Marks : 0.25

6 से विभाजित होने वाले 4-अंकीय संख्या के सबसे छोटे अंको का योग और 11 से विभाजित होने वाले 5-अंकीय संख्या के सबसे छोटे अंको के योग का गुणनफल ज्ञात करें।

Options :

1. ✖ 4

2. ✖ 5

3. ✔ 6

4. ✖ 7

Question Number : 88 Question Id : 54592733822 Question Type : MCQ Option Shuffling : Yes  
Correct Marks : 1 Wrong Marks : 0.25

What is the greatest 4-digit number divisible by 3, 4, 5 and 8?

Options :

1. ✖ 9900

2. ✖ 9920

3. ✖ 9940

4. ✔ 9960

Question Number : 88 Question Id : 54592733822 Question Type : MCQ Option Shuffling : Yes  
Correct Marks : 1 Wrong Marks : 0.25

वह सबसे बड़ी 4-अंकीय संख्या कौनसी है जो 3, 4, 5 और 8 से विभाज्य है?

Options :

1. ✖ 9900

2. ✖ 9920

3. ✖ 9940

4. ✔ 9960

Question Number : 89 Question Id : 54592733823 Question Type : MCQ Option Shuffling : Yes  
Correct Marks : 1 Wrong Marks : 0.25

In a regular week, there are 5 working days of 9 hours each. A man gets Rs 3 per hour for regular work and Rs 5 per hour for overtime. If he earns Rs 665 in 4 weeks, then how many hours did he work for?

Options :

1. ✓ 205

2. ✗ 210

3. ✗ 180

4. ✗ 230

Question Number : 89 Question Id : 54592733823 Question Type : MCQ Option Shuffling : Yes  
Correct Marks : 1 Wrong Marks : 0.25

एक नियमित सप्ताह में, प्रत्येक 9 घंटे के 5 कार्यशील दिवस हैं। एक आदमी को नियमित काम के लिए प्रति घंटे रु. 3 और अधिक समय तक काम करने के लिए प्रति घंटे रु. 5 मिलते हैं। यदि वह 4 सप्ताह में रु. 665 कमाता है, तो उसने कितने घंटे काम किया?

Options :

1. ✓ 205

2. ✗ 210

3. ✗ 180

4. ✗ 230

Question Number : 90 Question Id : 54592733824 Question Type : MCQ Option Shuffling : Yes  
Correct Marks : 1 Wrong Marks : 0.25

6 bells commence tolling together and toll at intervals of 2, 3, 4, 6, 8 and 10 seconds respectively. In 30 minutes, how many times do they toll together?

Options :

1. ✗ 12

2. ✗ 13

3. ✗ 14

4. ✓ 16

Question Number : 90 Question Id : 54592733824 Question Type : MCQ Option Shuffling : Yes  
Correct Marks : 1 Wrong Marks : 0.25



6 घंटियाँ क्रमशः 2, 3, 4, 6, 8 और 10 सेकंड के अंतराल पर एक साथ बजना शुरू करती हैं। 30 मिनट में, वे कितनी बार एक साथ बजती हैं?

Options :

1. ✖ 12
2. ✖ 13
3. ✖ 14
4. ✔ 16

Question Number : 91 Question Id : 54592733825 Question Type : MCQ Option Shuffling : Yes

Correct Marks : 1 Wrong Marks : 0.25

A discount of 25% in the price of rice enables X to buy 8 more kg for Rs 800. What is the reduced price per kg?

Options :

1. ✖ Rs 20
2. ✔ Rs 25
3. ✖ Rs 17.5
4. ✖ Rs 22.5

Question Number : 91 Question Id : 54592733825 Question Type : MCQ Option Shuffling : Yes

Correct Marks : 1 Wrong Marks : 0.25

चावल की कीमत में 25% की छूट X को रु. 800 में 8 और kg खरीदने में सक्षम बनाती है। प्रति किलो कम कीमत क्या है?

Options :

1. ✖ 20 रुपए
2. ✔ 25 रुपए
3. ✖ 17.5 रुपए
4. ✖ 22.5 रुपए

Question Number : 92 Question Id : 54592733826 Question Type : MCQ Option Shuffling : Yes  
Correct Marks : 1 Wrong Marks : 0.25

A library has an average 500 visitors on weekends and 250 average visitors on weekdays. What is the average number of visitors of the month of April which begins on a Sunday?

Options :

1. ✖ 300
2. ✔ 325
3. ✖ 350
4. ✖ 375

Question Number : 92 Question Id : 54592733826 Question Type : MCQ Option Shuffling : Yes  
Correct Marks : 1 Wrong Marks : 0.25

एक पुस्तकालय में सप्ताह के अंत पर औसतन 500 अभ्यागत और सप्ताह के दिनों में 250 औसत अभ्यागत होते हैं। अप्रैल के महीने की औसत अभ्यागत की संख्या क्या है जो रविवार से शुरू होती है?

Options :

1. ✖ 300
2. ✔ 325
3. ✖ 350
4. ✖ 375

Question Number : 93 Question Id : 54592733827 Question Type : MCQ Option Shuffling : Yes  
Correct Marks : 1 Wrong Marks : 0.25

In A's opinion, his weight is greater than 54 kg but less than 62 kg, B doesn't agree with him and says that A's weight is more than 51 kg but less than 59 kg. The mother of A believes that the weight of A is greater than 56 kg. If all of them are correct in their estimation, what is average of different probable weights of X?

Options :

1. ✓ 57.5 kg
2. ✗ 57.67 kg
3. ✗ 58.33 kg
4. ✗ 58.5 kg

Question Number : 93 Question Id : 54592733827 Question Type : MCQ Option Shuffling : Yes  
Correct Marks : 1 Wrong Marks : 0.25

A की राय में, उसका वजन 54 kg से अधिक है, लेकिन 62 kg से कम है, B उससे सहमत नहीं है और कहता है कि A का वजन 51 kg से अधिक है, लेकिन 59 kg से कम है। A की माता का मानना है कि A का वजन 56 kg से अधिक है। यदि वे सभी अपने अनुमान में सही हैं, तो X के विभिन्न संभावित वजनों का औसत क्या है?

Options :

1. ✓ 57.5 kg
2. ✗ 57.67 kg
3. ✗ 58.33 kg
4. ✗ 58.5 kg

Question Number : 94 Question Id : 54592733828 Question Type : MCQ Option Shuffling : Yes  
Correct Marks : 1 Wrong Marks : 0.25

If a student multiplies a number by  $\frac{2}{3}$  instead of  $\frac{3}{2}$ , what is the error percentage?

Options :

1. ✗ 22.22%
2. ✗ 33.33%
3. ✗ 44.44%
4. ✓ 55.56%

Question Number : 94 Question Id : 54592733828 Question Type : MCQ Option Shuffling : Yes  
Correct Marks : 1 Wrong Marks : 0.25

यदि कोई छात्र  $3/2$  की जगह  $2/3$  से संख्या गुणा करता है, तो गलत प्रतिशत क्या है?

Options :

1. ✖ 22.22%
2. ✖ 33.33%
3. ✖ 44.44%
4. ✔ 55.56%

Question Number : 95 Question Id : 54592733829 Question Type : MCQ Option Shuffling : Yes  
Correct Marks : 1 Wrong Marks : 0.25

A watermelon is kept under a sun for 3 days, due to which its water content reduces from 90% to 80%. If 500 g of water evaporated, then what was the initial weight of the watermelon?

Options :

1. ✖ 2.5 kg
2. ✔ 5 kg
3. ✖ 10 kg
4. ✖ 20 kg

Question Number : 95 Question Id : 54592733829 Question Type : MCQ Option Shuffling : Yes  
Correct Marks : 1 Wrong Marks : 0.25

एक तरबूज को 3 दिनों के लिए सूरज के नीचे रखा जाता है, जिसके कारण इसकी पानी की मात्रा 90% से घटकर 80% हो जाती है। यदि 500 g पानी वाष्पित हो गया, तो तरबूज का प्रारंभिक वजन क्या था?

Options :

1. ✖ 2.5 kg
2. ✔ 5 kg
3. ✖ 10 kg

4. ✖ 20 kg

Question Number : 96 Question Id : 54592733830 Question Type : MCQ Option Shuffling : Yes  
Correct Marks : 1 Wrong Marks : 0.25

40% of the employees of a certain company are men and 75% of the men earn more than Rs 25,000 per year. If 45% of the company's employees earn more than Rs 25,000 per year, what fraction of the women employed by the company earn more than Rs 25000 per year?

Options :

1. ✖ 2/11

2. ✔ 1/4

3. ✖ 10/17

4. ✖ 1/5

Question Number : 96 Question Id : 54592733830 Question Type : MCQ Option Shuffling : Yes  
Correct Marks : 1 Wrong Marks : 0.25

किसी कंपनी के कर्मचारियों में से 40% पुरुष हैं और 75% पुरुष प्रति वर्ष रु. 25,000 से अधिक कमाते हैं। यदि कंपनी के 45% कर्मचारी प्रति वर्ष रु. 25,000 से अधिक कमाते हैं, तो कंपनी द्वारा नियोजित महिलाओं का कौन सा अंश प्रति वर्ष रु. 25,000 से अधिक कमाता है?

Options :

1. ✖ 2/11

2. ✔ 1/4

3. ✖ 10/17

4. ✖ 1/5

Question Number : 97 Question Id : 54592733831 Question Type : MCQ Option Shuffling : Yes  
Correct Marks : 1 Wrong Marks : 0.25

A shopkeeper expects a gain of 25% on the cost price. If in a month, his sale was Rs 4500, then what is his profit?

Options :

1. ✖ Rs 720
2. ✖ Rs 690
3. ✖ Rs 810
4. ✔ Rs 900

Question Number : 97 Question Id : 54592733831 Question Type : MCQ Option Shuffling : Yes

Correct Marks : 1 Wrong Marks : 0.25

एक दुकानदार को लागत मूल्य पर 25% का लाभ होने की उम्मीद है। यदि एक महीने में, उसकी बिक्री रु. 4500 थी, तो उसका लाभ क्या है?

Options :

1. ✖ रु. 720
2. ✖ रु. 690
3. ✖ रु. 810
4. ✔ रु. 900

Question Number : 98 Question Id : 54592733832 Question Type : MCQ Option Shuffling : Yes

Correct Marks : 1 Wrong Marks : 0.25

A retailer mixes 20 kg of wheat at Rs 15 with 50 kg of wheat at Rs 22 and sells the mixture at Rs 20.5 per kg. What is his profit percent?

Options :

1. ✖ 0%
2. ✔ 2.50%
3. ✖ 5%
4. ✖ 7.50%

Question Number : 98 Question Id : 54592733832 Question Type : MCQ Option Shuffling : Yes

Correct Marks : 1 Wrong Marks : 0.25

एक खुदरा विक्रेता रु. 15 में 20 kg गेहूं को रु. 22 में 50 kg गेहूं के साथ मिलाकर रु. 20.5 प्रति kg के हिसाब से बेचता है। उसका लाभ प्रतिशत क्या है?

Options :

1. ✖ 0%
2. ✔ 2.50%
3. ✖ 5%
4. ✖ 7.50%

Question Number : 99 Question Id : 54592733833 Question Type : MCQ Option Shuffling : Yes

Correct Marks : 1 Wrong Marks : 0.25

X purchased 20 dozens of toys for Rs 6000 and sold all the toys in pairs. The toys were sold at the price of Rs 70 per pair. What is the overall profit percent?

Options :

1. ✔ 40%
2. ✖ 50%
3. ✖ 25%
4. ✖ 33.33%

Question Number : 99 Question Id : 54592733833 Question Type : MCQ Option Shuffling : Yes

Correct Marks : 1 Wrong Marks : 0.25

X ने रु. 6,000 में 20 दर्जन खिलौने खरीदे और सभी खिलौनों को जोड़ियों में बेच दिया। खिलौने रु. 70 प्रति जोड़ी की कीमत पर बेचे गए। कुल लाभ प्रतिशत क्या है?

Options :

1. ✔ 40%
2. ✖ 50%

3. ✖ 25%

4. ✖ 33.33%

Question Number : 100 Question Id : 54592733834 Question Type : MCQ Option Shuffling : Yes  
Correct Marks : 1 Wrong Marks : 0.25

A sum of money is to be distributed among A, B, C, D in the proportion of 6 : 7 : 5 : 1. If B gets Rs. 200 more than C, then what is A's share?

Options :

1. ✖ Rs 450

2. ✖ Rs 540

3. ✔ Rs 600

4. ✖ Rs 660

Question Number : 100 Question Id : 54592733834 Question Type : MCQ Option Shuffling : Yes  
Correct Marks : 1 Wrong Marks : 0.25

धनराशि को A, B, C, D के बीच 6 : 7 : 5 : 1 के अनुपात में वितरित किया जाना है। यदि B को C से रु. 200 अधिक मिले, तो A का हिस्सा कितना है?

Options :

1. ✖ 450 रुपए

2. ✖ 540 रुपए

3. ✔ 600 रुपए

4. ✖ 660 रुपए

## Arithmetic Ability2

Group Number :	6
Group Id :	5459271676
Group Maximum Duration :	0
Group Minimum Duration :	0
Show Attended Group? :	No



Edit Attended Group? :	No
Break time:	0
Group Marks:	20
Is this Group for Examiner?:	No
Revisit allowed for group Instructions? :	Yes
Maximum Instruction Time:	0
Minimum Instruction Time:	0

## Arithmetic Ability2

Section Id :	5459271676
Section Number :	1
Section type :	Online
Mandatory or Optional:	Mandatory
Number of Questions:	20
Number of Questions to be attempted:	20
Section Marks:	20

Sub-Section Number:	1
Sub-Section Id:	5459272010
Question Shuffling Allowed :	Yes

Question Number : 101 Question Id : 54592733835 Question Type : MCQ Option Shuffling : Yes  
Correct Marks : 1 Wrong Marks : 0.25

The seats for English, Hindi and Bengali languages in a school are in the ratio 2 : 5 : 3. The seats for English and Bengali are to be increase by 50% and 33.33% respectively. The seats for Hindi are to be decreased by 10%. Now, there will be 300 seats for English. So, how many total seats are now there?

Options :

1. ✖ 1000
2. ✖ 1050
3. ✖ 1100
4. ✔ 1150

Question Number : 101 Question Id : 54592733835 Question Type : MCQ Option Shuffling : Yes  
Correct Marks : 1 Wrong Marks : 0.25

एक स्कूल में अंग्रेजी, हिंदी और बंगाली भाषाओं की सीटें 2 : 5 : 3 के अनुपात में हैं। अंग्रेजी और बंगाली के लिए सीटों में क्रमशः 50% और 33.33% की वृद्धि की जाने वाली है। हिंदी के लिए सीटों में 10% की कमी की जाने वाली है। अब, अंग्रेजी के लिए 300 सीटें होंगी। तो, अब कुल कितनी सीटें हैं?

Options :

1. ✖ 1000
2. ✖ 1050
3. ✖ 1100
4. ✔ 1150

Question Number : 102 Question Id : 54592733836 Question Type : MCQ Option Shuffling : Yes  
Correct Marks : 1 Wrong Marks : 0.25

Rs 460 is divided so that 4 times the first share, 5 times the second share and 8 times the third share amount to the same. What is the value of the third share?

Options :

1. ✖ Rs 200
2. ✖ Rs 160
3. ✔ Rs 100
4. ✖ Rs 50

Question Number : 102 Question Id : 54592733836 Question Type : MCQ Option Shuffling : Yes  
Correct Marks : 1 Wrong Marks : 0.25

₹. 460 को विभाजित किया जाता है ताकि पहले हिस्से से 4 गुना, दूसरे हिस्से से 5 गुना और तीसरे हिस्से की राशि का 8 गुना हो। तीसरे हिस्से का मूल्य क्या है?

Options :

1. ✖ ₹. 200

2. ✖ ₹. 160

3. ✔ ₹. 100

4. ✖ ₹. 50

Question Number : 103 Question Id : 54592733837 Question Type : MCQ Option Shuffling : Yes  
Correct Marks : 1 Wrong Marks : 0.25

How much time will it take for an amount of Rs 360 to yield Rs 72 as interest at 5% pa of simple interest?

Options :

1. ✖ 2.5 years

2. ✖ 3 years

3. ✖ 3.5 years

4. ✔ 4 years

Question Number : 103 Question Id : 54592733837 Question Type : MCQ Option Shuffling : Yes  
Correct Marks : 1 Wrong Marks : 0.25

₹. 360 के साधारण ब्याज की 5% प्रति वर्ष की दर से ब्याज के रूप में ₹. 72 प्राप्त करने में कितना समय लगेगा?

Options :

1. ✖ 2.5 वर्ष

2. ✖ 3 वर्ष

3. ✖ 3.5 वर्ष

4. ✔ 4 वर्ष

Question Number : 104 Question Id : 54592733838 Question Type : MCQ Option Shuffling : Yes  
Correct Marks : 1 Wrong Marks : 0.25

The effective annual rate of interest corresponding to a nominal rate of 40% per annum compounding quarterly is?

Options :

1. ✖ 44.10%

2. ✓ 46.41%

3. ✗ 44.00%

4. ✗ 48.00%

Question Number : 104 Question Id : 54592733838 Question Type : MCQ Option Shuffling : Yes  
Correct Marks : 1 Wrong Marks : 0.25

वार्षिक चक्रवृद्धि तिमाही में 40% प्रतिवर्ष की मामूली दर के अनुरूप ब्याज की प्रभावी वार्षिक दर क्या है?

Options :

1. ✗ 44.10%

2. ✓ 46.41%

3. ✗ 44.00%

4. ✗ 48.00%

Question Number : 105 Question Id : 54592733839 Question Type : MCQ Option Shuffling : Yes  
Correct Marks : 1 Wrong Marks : 0.25

X took a loan of Rs 1500 with simple interest for as many years as the rate of interest. If the interest paid at the end of the period was Rs 735, then what was the rate of interest?

Options :

1. ✓ 7%

2. ✗ 8%

3. ✗ 6%

4. ✗ 10%

Question Number : 105 Question Id : 54592733839 Question Type : MCQ Option Shuffling : Yes  
Correct Marks : 1 Wrong Marks : 0.25

X ने ब्याज की दर के रूप में कई वर्षों के लिए साधारण ब्याज के साथ रु. 1,500 का ऋण लिया। यदि अवधि के अंत में भुगतान किया गया ब्याज रु. 735 था, तो ब्याज दर क्या थी?

Options :

1. ✓ 7%

2. ✗ 8%

3. ✗ 6%

4. ✗ 10%

Question Number : 106 Question Id : 54592733840 Question Type : MCQ Option Shuffling : Yes

Correct Marks : 1 Wrong Marks : 0.25

Two trains start moving towards each other when they are 5500 metres apart. 1st train travels at the speed of 25 m/s and the other one at 30 m/s. After how much time do they meet?

Options :

1. ✗ 80 seconds

2. ✗ 85 seconds

3. ✗ 92.5 seconds

4. ✓ 100 seconds

Question Number : 106 Question Id : 54592733840 Question Type : MCQ Option Shuffling : Yes

Correct Marks : 1 Wrong Marks : 0.25

5500 मीटर की दूरी पर होने पर दो रेलगाड़ियां एक दूसरे की ओर बढ़ने लगती हैं। पहली रेलगाड़ी 25 m/s की गति से और दूसरी 30 m/s की गति से यात्रा करती है। वो कितने समय बाद मिलेंगे?

Options :

1. ✗ 80 सेकंड

2. ✗ 85 सेकंड

3. ✗ 92.5 सेकंड

4. ✓ 100 सेकंड

Question Number : 107 Question Id : 54592733841 Question Type : MCQ Option Shuffling : Yes

Correct Marks : 1 Wrong Marks : 0.25

A train can travel 50% faster than a car. Both start from point A together and reach point B 90 km away at the same time. On the way, however, the train lost about 15 minutes while stopping at the stations. What is the speed of the car?

Options :

1. ✖ 90 km/h
2. ✔ 120 km/h
3. ✖ 105 km/h
4. ✖ 150 km/h

Question Number : 107 Question Id : 54592733841 Question Type : MCQ Option Shuffling : Yes

Correct Marks : 1 Wrong Marks : 0.25

एक रेलगाड़ी एक कार से 50% तेजी से यात्रा कर सकती है। दोनों एक साथ बिंदु A से शुरू करते हैं और एक ही समय में बिंदु B पर 90 km दूर पहुँचते हैं। हालाँकि, स्टेशनों पर रुकने के दौरान रेलगाड़ी को लगभग 15 मिनट का समय लगा। कार की गति क्या है?

Options :

1. ✖ 90 km/h
2. ✔ 120 km/h
3. ✖ 105 km/h
4. ✖ 150 km/h

Question Number : 108 Question Id : 54592733842 Question Type : MCQ Option Shuffling : Yes

Correct Marks : 1 Wrong Marks : 0.25

A man on tour travels first 360 km at 72 km/h and the next 160 km at 64 km/h and the last 200 km at 80 km/h. What is the average speed of the tour?

Options :

1. ✔ 20 m/s
2. ✖ 22.5 m/s

3. ✖ 25 m/s

4. ✖ 30 m/s

Question Number : 108 Question Id : 54592733842 Question Type : MCQ Option Shuffling : Yes

Correct Marks : 1 Wrong Marks : 0.25

यात्रा पर एक व्यक्ति ने पहले 360 km जो 72 km/h से और अगले 160 km 64 km/h से और अंतिम 200 km 80 km/h की यात्रा करता है। दौरे की औसत गति क्या है?

Options :

1. ✔ 20 m/s

2. ✖ 22.5 m/s

3. ✖ 25 m/s

4. ✖ 30 m/s

Question Number : 109 Question Id : 54592733843 Question Type : MCQ Option Shuffling : Yes

Correct Marks : 1 Wrong Marks : 0.25

A can do a work in 8 days while B can do it in 12 days. In how many days can C do the work if all 3 of them together can do it in 3 days?

Options :

1. ✔ 8

2. ✖ 10

3. ✖ 12

4. ✖ 14

Question Number : 109 Question Id : 54592733843 Question Type : MCQ Option Shuffling : Yes

Correct Marks : 1 Wrong Marks : 0.25

A एक कार्य को 8 दिनों में कर सकता है जबकि B उसे 12 दिनों में कर सकता है। यदि तीनों मिलकर वह कार्य 3 दिनों में पूरा कर सकते हैं, तो C अकेले वह कार्य कितने दिनों में पूरा कर सकता है?

Options :

1. ✓ 8

2. ✗ 10

3. ✗ 12

4. ✗ 14

Question Number : 110 Question Id : 54592733844 Question Type : MCQ Option Shuffling : Yes

Correct Marks : 1 Wrong Marks : 0.25

A can do a work in 12 days, while working together A & B can do the work in 6 days, how many days will B alone take to do the work after A has done half of the work alone?

Options :

1. ✗ 4

2. ✗ 5

3. ✓ 6

4. ✗ 7

Question Number : 110 Question Id : 54592733844 Question Type : MCQ Option Shuffling : Yes

Correct Marks : 1 Wrong Marks : 0.25

A 12 दिनों में एक कार्य कर सकता है, जबकि A और B एक साथ काम करते हुए 6 दिनों में कार्य कर सकते हैं, A के आधा कार्य करने के बाद B को कार्य पूरा करने में और कितने दिन लगेंगे?

Options :

1. ✗ 4

2. ✗ 5

3. ✓ 6

4. ✗ 7

Question Number : 111 Question Id : 54592733845 Question Type : MCQ Option Shuffling : Yes

Correct Marks : 1 Wrong Marks : 0.25



A, B and C can complete a work alone in 80, 120 and 180 days respectively. In how many days can A finish the work if he is assisted by B every 2nd day and by C on every 3rd day?

Options :

1. ✖ 48
2. ✔ 54
3. ✖ 60
4. ✖ 45

Question Number : 111 Question Id : 54592733845 Question Type : MCQ Option Shuffling : Yes

Correct Marks : 1 Wrong Marks : 0.25

A, B और C क्रमशः 80, 120 और 180 दिनों में अकेले काम पूरा कर सकते हैं। A कितने दिनों में कार्य कर सकता है यदि वह B से हर दूसरे दिन और C से हर तीसरे दिन सहायता लेता है?

Options :

1. ✖ 48
2. ✔ 54
3. ✖ 60
4. ✖ 45

Question Number : 112 Question Id : 54592733846 Question Type : MCQ Option Shuffling : Yes

Correct Marks : 1 Wrong Marks : 0.25

The length of a rectangular plot is thrice its breadth. The area of the plot  $768 \text{ m}^2$ . Find the perimeter of the plot.

Options :

1. ✖ 120 m
2. ✖ 124 m
3. ✔ 128 m
4. ✖ 132 m

Question Number : 112 Question Id : 54592733846 Question Type : MCQ Option Shuffling : Yes

Correct Marks : 1 Wrong Marks : 0.25

एक आयताकार भूखंड की लंबाई इसकी चौड़ाई से तीन गुना है। भूखंड का क्षेत्रफल  $768 \text{ m}^2$ । भूखंड का परिमाण ज्ञात करें।

Options :

1. ✖ 120 m

2. ✖ 124 m

3. ✔ 128 m

4. ✖ 132 m

Question Number : 113 Question Id : 54592733847 Question Type : MCQ Option Shuffling : Yes

Correct Marks : 1 Wrong Marks : 0.25

A sphere of radius 9 cm is moulded to form a cylinder of radius 3 cm. Find the height of the cylinder.

Options :

1. ✖ 54 cm

2. ✔ 108 cm

3. ✖ 162 cm

4. ✖ 216 cm

Question Number : 113 Question Id : 54592733847 Question Type : MCQ Option Shuffling : Yes

Correct Marks : 1 Wrong Marks : 0.25

त्रिज्या 9 cm के एक गोले को 3 cm त्रिज्या के सिलेंडर को बनाने के लिए ढाला जाता है। सिलेंडर की ऊँचाई ज्ञात करें।

Options :

1. ✖ 54 cm

2. ✔ 108 cm

3. ✖ 162 cm

4. ✖ 216 cm

Question Number : 114 Question Id : 54592733848 Question Type : MCQ Option Shuffling : Yes  
Correct Marks : 1 Wrong Marks : 0.25

If the ratio between the volume and the curved surface area of a cylinder is 7:1 and the height measures twice the diameter, then find the volume of the cylinder.

Options :

1. ✔ 34496 cu cm

2. ✖ 43120 cu cm

3. ✖ 17248 cu cm

4. ✖ 120736 cu cm

Question Number : 114 Question Id : 54592733848 Question Type : MCQ Option Shuffling : Yes  
Correct Marks : 1 Wrong Marks : 0.25

यदि किसी सिलेंडर के आयतन और घुमावदार सतह क्षेत्र के बीच का अनुपात 7:1 है और ऊँचाई दो बार व्यास को मापती है, तो सिलेंडर का आयतन ज्ञात करें।

Options :

1. ✔ 34496 cu cm

2. ✖ 43120 cu cm

3. ✖ 17248 cu cm

4. ✖ 120736 cu cm

Question Number : 115 Question Id : 54592733849 Question Type : MCQ Option Shuffling : Yes  
Correct Marks : 1 Wrong Marks : 0.25

The table shows the various expenses of a firm over a period of time. By how much is the expenditure of 2018 more than the expenditure of 2016?

Year	Particulars				
	Raw Materials	Salaries	Rent	Interest	Delivery
2014	1250	350	800	400	400
2015	1300	400	850	400	500
2016	1650	500	900	500	600
2017	1500	480	950	500	700
2018	1750	720	1100	500	850

Options :

1. ✖ 550
2. ✖ 660
3. ✔ 770
4. ✖ 880

Question Number : 115 Question Id : 54592733849 Question Type : MCQ Option Shuffling : Yes

Correct Marks : 1 Wrong Marks : 0.25

तालिका समय की अवधि में एक फर्म के विभिन्न खर्चों को दिखाती है।  
2016 के खर्च की तुलना में 2018 का खर्च कितना है?

साल	विवरण				
	कच्चा माल	वेतन	किराया	ब्याज	वितरण
2014	1250	350	800	400	400
2015	1300	400	850	400	500
2016	1650	500	900	500	600
2017	1500	480	950	500	700
2018	1750	720	1100	500	850

Options :

1. ✖ 550
2. ✖ 660
3. ✔ 770

4. ✖ 880

Question Number : 116 Question Id : 54592733850 Question Type : MCQ Option Shuffling : Yes  
Correct Marks : 1 Wrong Marks : 0.25

The table shows the various expenses of a firm over a period of time. By how much is the expenditure of 2018 more than the expenditure of 2015?

Year	Particulars				
	Raw Materials	Salaries	Rent	Interest	Delivery
2014	1000	300	800	400	400
2015	1800	400	800	500	500
2016	900	450	950	500	500
2017	1200	400	800	500	800
2018	2000	700	1000	600	900

Options :

1. ✖ 20%

2. ✖ 22.50%

3. ✖ 25%

4. ✔ 30%

Question Number : 116 Question Id : 54592733850 Question Type : MCQ Option Shuffling : Yes  
Correct Marks : 1 Wrong Marks : 0.25

तालिका समय की अवधि में एक फर्म के विभिन्न खर्चों को दर्शाती है।  
2015 के खर्च की तुलना में 2018 का खर्च कितना है?

साल	विवरण				
	कच्चा माल	वेतन	किराया	ब्याज	वितरण
2014	1000	300	800	400	400
2015	1800	400	800	500	500
2016	900	450	950	500	500
2017	1200	400	800	500	800
2018	2000	700	1000	600	900

Options :

1. ✖ 20%

2. ✖ 22.50%

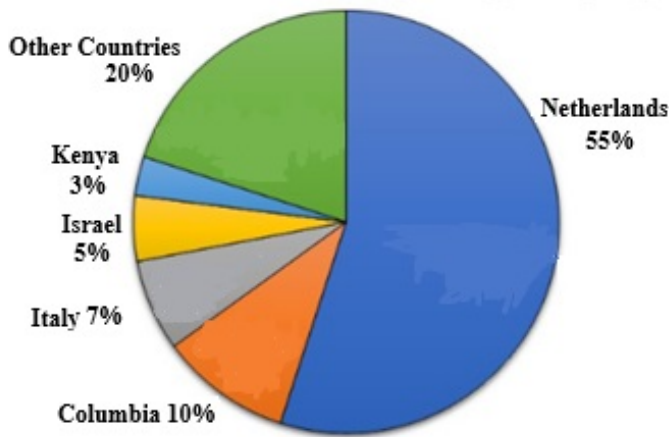
3. ✖ 25%

4. ✔ 30%

Question Number : 117 Question Id : 54592733851 Question Type : MCQ Option Shuffling : Yes  
Correct Marks : 1 Wrong Marks : 0.25

The following chart shows the market share of flower exporting companies. If India constitutes 5% of the share of other countries and the quantity of exported flowers by Kenya is 6 million, find the quantity exported by India.

Market share of Flower Exporting Company



Options :

1. ✖ 1 million

2. ✔ 2 million

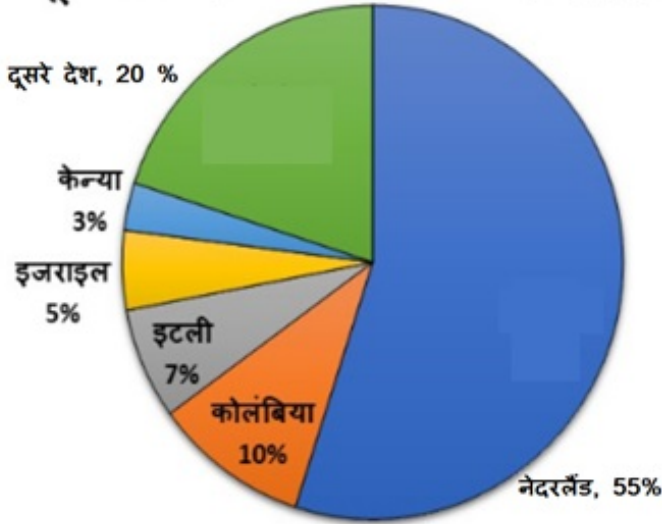
3. ✖ 3 million

4. ✖ 4 million

Question Number : 117 Question Id : 54592733851 Question Type : MCQ Option Shuffling : Yes  
Correct Marks : 1 Wrong Marks : 0.25

निम्नलिखित चार्ट में फूलों की निर्यात करने वाली कंपनियों की बाजार हिस्सेदारी है। यदि भारत अन्य देशों के 5% हिस्से का गठन करता है और केन्या द्वारा निर्यात किए गए फूलों की मात्रा 6 मिलियन है, तो भारत द्वारा निर्यात की गई मात्रा ज्ञात करें।

### फूल निर्यात कंपनी का बाजार हिस्सा

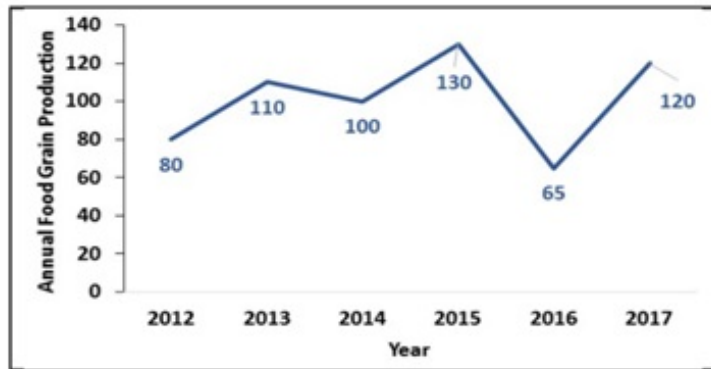


Options :

1. ✘ 1 मिलियन
2. ✔ 2 मिलियन
3. ✘ 3 मिलियन
4. ✘ 4 मिलियन

Question Number : 118 Question Id : 54592733852 Question Type : MCQ Option Shuffling : Yes  
Correct Marks : 1 Wrong Marks : 0.25

The line chart shows the annual food grain production (in million tonnes) for various years. By how much is the maximum production greater than the minimum production?



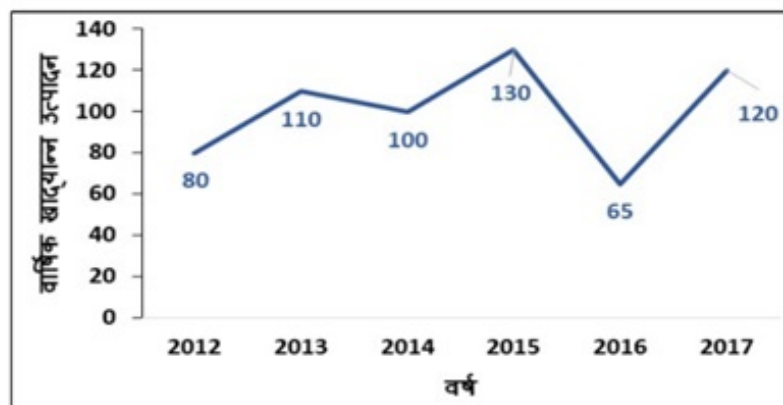
Options :

1. ✘ 50%
2. ✘ 66.67%
3. ✘ 75%
4. ✔ 100%

Question Number : 118 Question Id : 54592733852 Question Type : MCQ Option Shuffling : Yes

Correct Marks : 1 Wrong Marks : 0.25

लाइन चार्ट विभिन्न वर्षों के लिए वार्षिक खाद्यान्न उत्पादन (मिलियन टन में) दिखाता है। न्यूनतम उत्पादन की तुलना में अधिकतम उत्पादन कितना है?



Options :

1. ✘ 50%



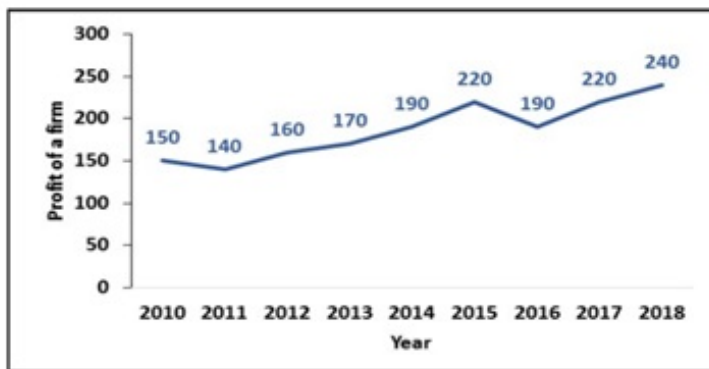
2. ✖ 66.67%

3. ✖ 75%

4. ✔ 100%

Question Number : 119 Question Id : 54592733853 Question Type : MCQ Option Shuffling : Yes  
Correct Marks : 1 Wrong Marks : 0.25

The line chart shows the profit (in '000s) of a firm for various years. What is the average profit in the years of 2012-2015?



Options :

1. ✖ 165000

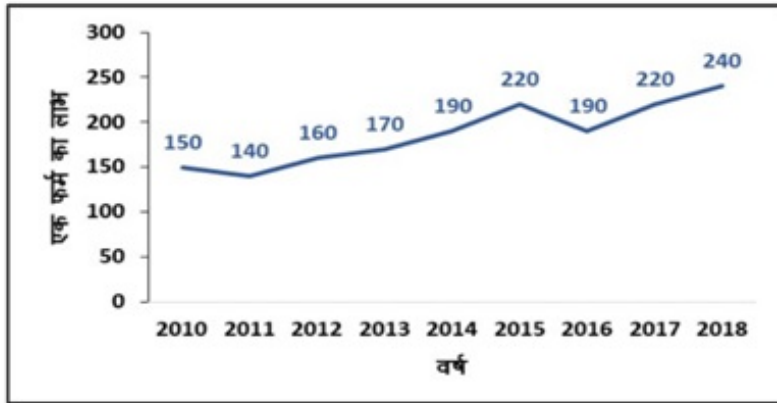
2. ✖ 175000

3. ✔ 185000

4. ✖ 195000

Question Number : 119 Question Id : 54592733853 Question Type : MCQ Option Shuffling : Yes  
Correct Marks : 1 Wrong Marks : 0.25

लाइन चार्ट विभिन्न वर्षों के लिए एक फर्म के लाभ ('000s में) को दर्शाता है। 2012-2015 के वर्षों में औसत लाभ क्या है?

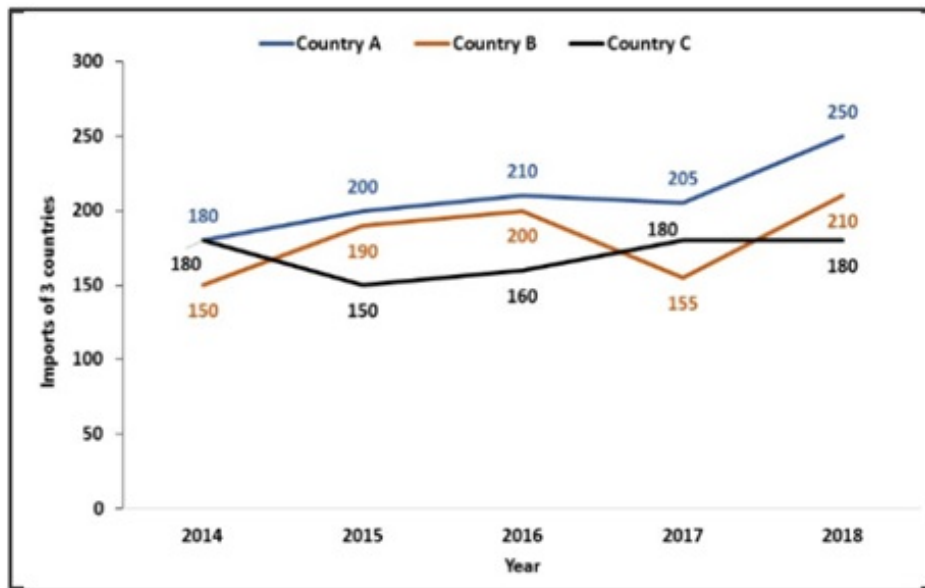


Options :

1. ✘ 165000
2. ✘ 175000
3. ✔ 185000
4. ✘ 195000

Question Number : 120 Question Id : 54592733854 Question Type : MCQ Option Shuffling : Yes  
Correct Marks : 1 Wrong Marks : 0.25

The line chart shows the imports (in '000s) of 3 countries for various years. For which of the following pairs of years, the total imports of 3 countries is the same?



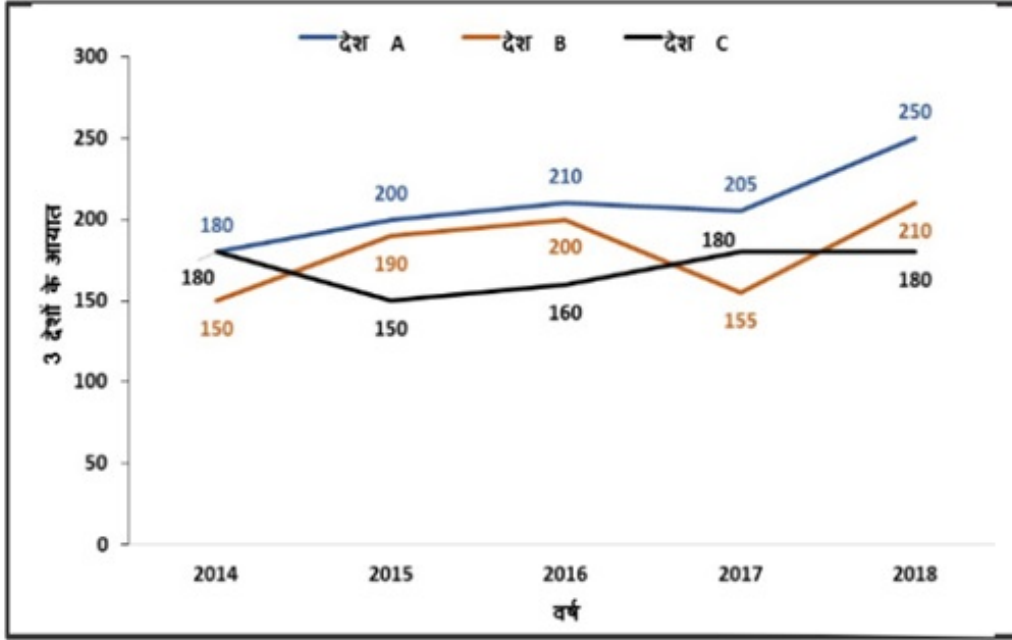
Options :

1. ✘ 2016 & 2018
2. ✘ 2014 & 2016
3. ✔ 2015 & 2017
4. ✘ 2016 & 2017

Question Number : 120 Question Id : 54592733854 Question Type : MCQ Option Shuffling : Yes

Correct Marks : 1 Wrong Marks : 0.25

लाइन चार्ट विभिन्न वर्षों के लिए 3 देशों के आयात ('000 में) को दर्शाता है। निम्नलिखित में से किस वर्ष के लिए, 3 देशों का कुल आयात समान है?



Options :

1. ✖ 2016 और 2018
2. ✖ 2014 और 2016
3. ✔ 2015 और 2017
4. ✖ 2016 और 2017

## General English1

Group Number :	7
Group Id :	5459271677
Group Maximum Duration :	0
Group Minimum Duration :	0
Show Attended Group? :	No
Edit Attended Group? :	No
Break time:	0
Group Marks:	20
Is this Group for Examiner? :	No
Revisit allowed for group Instructions? :	Yes
Maximum Instruction Time:	0
Minimum Instruction Time:	0

# General English1

Section Id :	5459271677
Section Number :	1
Section type :	Online
Mandatory or Optional:	Mandatory
Number of Questions:	20
Number of Questions to be attempted:	20
Section Marks:	20

Sub-Section Number:	1
Sub-Section Id:	5459272011
Question Shuffling Allowed :	Yes

Question Number : 121 Question Id : 54592733855 Question Type : MCQ Option Shuffling : Yes  
Correct Marks : 1 Wrong Marks : 0.25

The sentence below has been divided into three parts. Select the part of the sentence that has an error. If the sentence has no error, select the option 'No Error'.

Vandana kept / her bag within the table / and sat down.

Options :

1. ✘ Vandana kept
2. ✔ her bag within the table
3. ✘ and sat down.
4. ✘ No Error

Question Number : 121 Question Id : 54592733855 Question Type : MCQ Option Shuffling : Yes  
Correct Marks : 1 Wrong Marks : 0.25

The sentence below has been divided into three parts. Select the part of the sentence that has an error. If the sentence has no error, select the option 'No Error'.

Vandana kept / her bag within the table / and sat down.

Options :

1. ✖ Vandana kept
2. ✔ her bag within the table
3. ✖ and sat down.
4. ✖ No Error

Question Number : 122 Question Id : 54592733856 Question Type : MCQ Option Shuffling : Yes  
Correct Marks : 1 Wrong Marks : 0.25

The sentence below has been divided into three parts. Select the part of the sentence that has an error. If the sentence has no error, select the option 'No Error'.

Pushpa met / her childhood friend Rani / after two year long.

Options :

1. ✖ Pushpa met
2. ✖ her childhood friend Rani
3. ✔ after two year long.
4. ✖ No Error

Question Number : 122 Question Id : 54592733856 Question Type : MCQ Option Shuffling : Yes  
Correct Marks : 1 Wrong Marks : 0.25

The sentence below has been divided into three parts. Select the part of the sentence that has an error. If the sentence has no error, select the option 'No Error'.

Pushpa met / her childhood friend Rani / after two year long.

Options :

1. ✖ Pushpa met
2. ✖ her childhood friend Rani

3. ✓ after two year long.

4. ✗ No Error

Question Number : 123 Question Id : 54592733857 Question Type : MCQ Option Shuffling : Yes

Correct Marks : 1 Wrong Marks : 0.25

The sentence below has been divided into three parts. Select the part of the sentence that has an error. If the sentence has no error, select the option 'No Error'.

Mahendra have some milk / and went to bed / as he was very tired.

Options :

1. ✓ Mahendra have some milk

2. ✗ and went to bed

3. ✗ as he was very tired.

4. ✗ No Error

Question Number : 123 Question Id : 54592733857 Question Type : MCQ Option Shuffling : Yes

Correct Marks : 1 Wrong Marks : 0.25

The sentence below has been divided into three parts. Select the part of the sentence that has an error. If the sentence has no error, select the option 'No Error'.

Mahendra have some milk / and went to bed / as he was very tired.

Options :

1. ✓ Mahendra have some milk

2. ✗ and went to bed

3. ✗ as he was very tired.

## 4. ✖ No Error

Question Number : 124 Question Id : 54592733858 Question Type : MCQ Option Shuffling : Yes  
Correct Marks : 1 Wrong Marks : 0.25

The sentence below has been divided into three parts. Select the part of the sentence that has an error. If the sentence has no error, select the option 'No Error'.

Mr. and Mrs. Patel's / adopted an orphan / as they did not have any child.

Options :

1. ✔ Mr. and Mrs. Patel's
2. ✖ adopted an orphan
3. ✖ as they did not have any child.
4. ✖ No Error

Question Number : 124 Question Id : 54592733858 Question Type : MCQ Option Shuffling : Yes  
Correct Marks : 1 Wrong Marks : 0.25

The sentence below has been divided into three parts. Select the part of the sentence that has an error. If the sentence has no error, select the option 'No Error'.

Mr. and Mrs. Patel's / adopted an orphan / as they did not have any child.

Options :

1. ✔ Mr. and Mrs. Patel's
2. ✖ adopted an orphan
3. ✖ as they did not have any child.
4. ✖ No Error



Question Number : 125 Question Id : 54592733859 Question Type : MCQ Option Shuffling : Yes

Correct Marks : 1 Wrong Marks : 0.25

The sentence below has been divided into three parts. Select the part of the sentence that has an error. If the sentence has no error, select the option 'No Error'.

The judge gave the couple / six months to / sort things out themselves.

Options :

1. ✖ The judge gave the couple
2. ✖ six months to
3. ✔ sort things out themselves.
4. ✖ No Error

Question Number : 125 Question Id : 54592733859 Question Type : MCQ Option Shuffling : Yes

Correct Marks : 1 Wrong Marks : 0.25

The sentence below has been divided into three parts. Select the part of the sentence that has an error. If the sentence has no error, select the option 'No Error'.

The judge gave the couple / six months to / sort things out themselves.

Options :

1. ✖ The judge gave the couple
2. ✖ six months to
3. ✔ sort things out themselves.
4. ✖ No Error

Question Number : 126 Question Id : 54592733860 Question Type : MCQ Option Shuffling : Yes

Correct Marks : 1 Wrong Marks : 0.25

Select the word segment that substitutes (replaces) the bracketed word segment correctly and completes the sentence meaningfully.

You haven't seen Lata since morning, (haven't you?)

Options :

1. ✓ have you?
2. ✗ has she?
3. ✗ had you?
4. ✗ No correction required

Question Number : 126 Question Id : 54592733860 Question Type : MCQ Option Shuffling : Yes

Correct Marks : 1 Wrong Marks : 0.25

Select the word segment that substitutes (replaces) the bracketed word segment correctly and completes the sentence meaningfully.

You haven't seen Lata since morning, (haven't you?)

Options :

1. ✓ have you?
2. ✗ has she?
3. ✗ had you?
4. ✗ No correction required

Question Number : 127 Question Id : 54592733861 Question Type : MCQ Option Shuffling : Yes

Correct Marks : 1 Wrong Marks : 0.25

Select the word segment that substitutes (replaces) the bracketed word segment correctly and completes the sentence meaningfully.

(The soup was too hot) to be sipped up instantly.

Options :

1. ✖ The soup was so hot
2. ✖ The soup was very hot
3. ✖ The soup was too much hot
4. ✔ No correction required

Question Number : 127 Question Id : 54592733861 Question Type : MCQ Option Shuffling : Yes  
Correct Marks : 1 Wrong Marks : 0.25

Select the word segment that substitutes (replaces) the bracketed word segment correctly and completes the sentence meaningfully.

(The soup was too hot) to be sipped up instantly.

Options :

1. ✖ The soup was so hot
2. ✖ The soup was very hot
3. ✖ The soup was too much hot
4. ✔ No correction required

Question Number : 128 Question Id : 54592733862 Question Type : MCQ Option Shuffling : Yes  
Correct Marks : 1 Wrong Marks : 0.25

Select the word segment that substitutes (replaces) the bracketed word segment correctly and completes the sentence meaningfully.

(He did not draw her potrait) but also painted it.

Options :

1. \* He did not draw her potrait only

2. ✓

Not only did he draw her potrait

3. \* He drew not only her potrait

4. \* No correction required

Question Number : 128 Question Id : 54592733862 Question Type : MCQ Option Shuffling : Yes

Correct Marks : 1 Wrong Marks : 0.25

Select the word segment that substitutes (replaces) the bracketed word segment correctly and completes the sentence meaningfully.

(He did not draw her potrait) but also painted it.

Options :

1. \* He did not draw her potrait only

2. ✓

Not only did he draw her potrait

3. \* He drew not only her potrait

4. \* No correction required

Question Number : 129 Question Id : 54592733863 Question Type : MCQ Option Shuffling : Yes

Correct Marks : 1 Wrong Marks : 0.25

Select the word segment that substitutes (replaces) the bracketed word segment correctly and completes the sentence meaningfully.

(Mr. Singh is been working) in this factory ever since it was established in 1980.

Options :

1. ✖ Mr. Singh have been working
2. ✖ Mr. Singh worked
3. ✔ Mr. Singh has been working
4. ✖ No correction required

Question Number : 129 Question Id : 54592733863 Question Type : MCQ Option Shuffling : Yes  
Correct Marks : 1 Wrong Marks : 0.25

Select the word segment that substitutes (replaces) the bracketed word segment correctly and completes the sentence meaningfully.

(Mr. Singh is been working) in this factory ever since it was established in 1980.

Options :

1. ✖ Mr. Singh have been working
2. ✖ Mr. Singh worked
3. ✔ Mr. Singh has been working
4. ✖ No correction required

Question Number : 130 Question Id : 54592733864 Question Type : MCQ Option Shuffling : Yes  
Correct Marks : 1 Wrong Marks : 0.25

Select the word segment that substitutes (replaces) the bracketed word segment correctly and completes the sentence meaningfully.

The gang never came to know who had (let the cat out of the bag).

Options :

1. ✖ let the cat out from the bag
2. ✖ let the cat off the bag
3. ✖ left the cat out of the bag
4. ✔ No correction required

Question Number : 130 Question Id : 54592733864 Question Type : MCQ Option Shuffling : Yes  
Correct Marks : 1 Wrong Marks : 0.25

Select the word segment that substitutes (replaces) the bracketed word segment correctly and completes the sentence meaningfully.

The gang never came to know who had (let the cat out of the bag).

Options :

1. ✖ let the cat out from the bag
2. ✖ let the cat off the bag
3. ✖ left the cat out of the bag
4. ✔ No correction required

Question Number : 131 Question Id : 54592733865 Question Type : MCQ Option Shuffling : Yes  
Correct Marks : 1 Wrong Marks : 0.25

Select the word that fills in the blank correctly and completes the sentence meaningfully.

The receptionist smiled \_\_\_\_\_ him and asked him to sit down.

Options :

1. ✖ with

2. ✔ at

3. ✖ on

4. ✖ for

Question Number : 131 Question Id : 54592733865 Question Type : MCQ Option Shuffling : Yes

Correct Marks : 1 Wrong Marks : 0.25

Select the word that fills in the blank correctly and completes the sentence meaningfully.

The receptionist smiled \_\_\_\_\_ him and asked him to sit down.

Options :

1. ✖ with

2. ✔ at

3. ✖ on

4. ✖ for

Question Number : 132 Question Id : 54592733866 Question Type : MCQ Option Shuffling : Yes

Correct Marks : 1 Wrong Marks : 0.25

Select the word that fills in the blank correctly and completes the sentence meaningfully.

Although I tried hard, I could not \_\_\_\_\_ what she was saying.

Options :

1. ✖ compere
2. ✔ comprehend
3. ✖ apprehend
4. ✖ annihilate

Question Number : 132 Question Id : 54592733866 Question Type : MCQ Option Shuffling : Yes  
Correct Marks : 1 Wrong Marks : 0.25

Select the word that fills in the blank correctly and completes the sentence meaningfully.

Although I tried hard, I could not \_\_\_\_\_ what she was saying.

Options :

1. ✖ compere
2. ✔ comprehend
3. ✖ apprehend
4. ✖ annihilate

Question Number : 133 Question Id : 54592733867 Question Type : MCQ Option Shuffling : Yes  
Correct Marks : 1 Wrong Marks : 0.25

Select the word that fills in the blank correctly and completes the sentence meaningfully.

Although Fred was an Australian, he \_\_\_\_\_ the Indian team as if India was his country.

Options :

1. ✔ was cheering
2. ✖ have cheering
3. ✖ is cheering



#### 4. ✖ was cheered

Question Number : 133 Question Id : 54592733867 Question Type : MCQ Option Shuffling : Yes  
Correct Marks : 1 Wrong Marks : 0.25

Select the word that fills in the blank correctly and completes the sentence meaningfully.

Although Fred was an Australian, he \_\_\_\_\_ the Indian team as if India was his country.

Options :

1. ✔ was cheering
2. ✖ have cheering
3. ✖ is cheering
4. ✖ was cheered

Question Number : 134 Question Id : 54592733868 Question Type : MCQ Option Shuffling : Yes  
Correct Marks : 1 Wrong Marks : 0.25

Select the word that fills in the blank correctly and completes the sentence meaningfully.

The principal said that his decision was final and \_\_\_\_\_.

Options :

1. ✖ affable
2. ✖ skeptical
3. ✖ implausible
4. ✔ irrevocable

Question Number : 134 Question Id : 54592733868 Question Type : MCQ Option Shuffling : Yes  
Correct Marks : 1 Wrong Marks : 0.25

Select the word that fills in the blank correctly and completes the sentence meaningfully.

The principal said that his decision was final and \_\_\_\_\_.

Options :

1. ✘ affable
2. ✘ skeptical
3. ✘ implausible
4. ✔ irrevocable

Question Number : 135 Question Id : 54592733869 Question Type : MCQ Option Shuffling : Yes

Correct Marks : 1 Wrong Marks : 0.25

Select the word that fills in the blank correctly and completes the sentence meaningfully.

After receiving the court's approval, the authority \_\_\_\_\_ the minister's movable and immovable property.

Options :

1. ✘ convoluted
2. ✘ sophisticated
3. ✘ scandalised
4. ✔ confiscated

Question Number : 135 Question Id : 54592733869 Question Type : MCQ Option Shuffling : Yes

Correct Marks : 1 Wrong Marks : 0.25

Select the word that fills in the blank correctly and completes the sentence meaningfully.

After receiving the court's approval, the authority \_\_\_\_\_ the minister's movable and immovable property.

Options :

1. ✘ convoluted
2. ✘ sophisticated
3. ✘ scandalised
4. ✔ confiscated

Question Number : 136 Question Id : 54592733870 Question Type : MCQ Option Shuffling : Yes

Correct Marks : 1 Wrong Marks : 0.25

Select the word that fills in the blank correctly and completes the sentence meaningfully.

She was so \_\_\_\_\_ that she could not stop biting her nails.

Options :

1. ✘ nervousness
2. ✘ nervedly
3. ✘ nervously
4. ✔ nervous

Question Number : 136 Question Id : 54592733870 Question Type : MCQ Option Shuffling : Yes

Correct Marks : 1 Wrong Marks : 0.25

Select the word that fills in the blank correctly and completes the sentence meaningfully.

She was so \_\_\_\_\_ that she could not stop biting her nails.

Options :

1. ✘ nervousness
2. ✘ nervedly
3. ✘ nervously
4. ✔ nervous

Question Number : 137 Question Id : 54592733871 Question Type : MCQ Option Shuffling : Yes

Correct Marks : 1 Wrong Marks : 0.25

Select the word that fills in the blank correctly and completes the sentence meaningfully.

Crocodiles can move very \_\_\_\_\_ in water.

Options :

1. ✘ fastly
2. ✔ fast
3. ✘ fastily
4. ✘ fastest

Question Number : 137 Question Id : 54592733871 Question Type : MCQ Option Shuffling : Yes

Correct Marks : 1 Wrong Marks : 0.25

Select the word that fills in the blank correctly and completes the sentence meaningfully.

Crocodiles can move very \_\_\_\_\_ in water.

Options :

1. ✖ fastly
2. ✔ fast
3. ✖ fastily
4. ✖ fastest

Question Number : 138 Question Id : 54592733872 Question Type : MCQ Option Shuffling : Yes  
Correct Marks : 1 Wrong Marks : 0.25

Select the word that fills in the blank correctly and completes the sentence meaningfully.

Whatever the provocation, the violence that severely injured a doctor is \_\_\_\_\_.

Options :

1. ✖ unanimous
2. ✖ innumerable
3. ✔ indefensible
4. ✖ convivial

Question Number : 138 Question Id : 54592733872 Question Type : MCQ Option Shuffling : Yes  
Correct Marks : 1 Wrong Marks : 0.25

Select the word that fills in the blank correctly and completes the sentence meaningfully.

Whatever the provocation, the violence that severely injured a doctor is \_\_\_\_\_.

Options :

1. ✖ unanimous
2. ✖ innumerable

3. ✓ indefensible

4. ✗ convivial

Question Number : 139 Question Id : 54592733873 Question Type : MCQ Option Shuffling : Yes

Correct Marks : 1 Wrong Marks : 0.25

The sentences of a paragraph have been jumbled up, and labeled P, Q, R and S. Select the option that gives the correct sequence in which these sentences should be rearranged to form a meaningful paragraph.

P: armed struggle was seen as the only path to freedom,

Q: non-violent campaigns are now considered

R: in many areas of the world where

S: better methods of struggle for democratic governance

Options :

1. ✗ PQRS

2. ✗ SRPQ

3. ✗ QPSR

4. ✓ RPQS

Question Number : 139 Question Id : 54592733873 Question Type : MCQ Option Shuffling : Yes

Correct Marks : 1 Wrong Marks : 0.25

The sentences of a paragraph have been jumbled up, and labeled P, Q, R and S. Select the option that gives the correct sequence in which these sentences should be rearranged to form a meaningful paragraph.

P: armed struggle was seen as the only path to freedom,

Q: non-violent campaigns are now considered

R: in many areas of the world where

S: better methods of struggle for democratic governance

Options :

1. ✖ PQRS

2. ✖ SRPQ

3. ✖ QPSR

4. ✔ RPQS

Question Number : 140 Question Id : 54592733874 Question Type : MCQ Option Shuffling : Yes

Correct Marks : 1 Wrong Marks : 0.25

The sentences of a paragraph have been jumbled up, and labeled P, Q, R and S. Select the option that gives the correct sequence in which these sentences should be rearranged to form a meaningful paragraph.

P: We swam in the village lake in the morning and spent the long afternoons in my grandfather's mango orchard.

Q: It was a typical, nondescript village, much like any other that you could find in the region.

R: But a deeper peep would let you see the uniqueness of each feature of the rustic landscape.

S: Every summer, we would board a train and take a night-long journey to to our ancestral village.

Options :

1. ✖ SRPQ

2. ✖ SPQR

3. ✖ QSRP

4. ✔ SQRP

Question Number : 140 Question Id : 54592733874 Question Type : MCQ Option Shuffling : Yes

Correct Marks : 1 Wrong Marks : 0.25



The sentences of a paragraph have been jumbled up, and labeled P, Q, R and S. Select the option that gives the correct sequence in which these sentences should be rearranged to form a meaningful paragraph.

P: We swam in the village lake in the morning and spent the long afternoons in my grandfather's mango orchard.

Q: It was a typical, nondescript village, much like any other that you could find in the region.

R: But a deeper peep would let you see the uniqueness of each feature of the rustic landscape.

S: Every summer, we would board a train and take a night-long journey to to our ancestral village.

Options :

1. ✘ SRPQ

2. ✘ SPQR

3. ✘ QSRP

4. ✔ SQRP

## General English2

Group Number :	8
Group Id :	5459271678
Group Maximum Duration :	0
Group Minimum Duration :	0
Show Attended Group? :	No
Edit Attended Group? :	No
Break time:	0
Group Marks:	20
Is this Group for Examiner?:	No

Revisit allowed for group Instructions? :	Yes
Maximum Instruction Time:	0
Minimum Instruction Time:	0

## General English2

Section Id :	5459271678
Section Number :	1
Section type :	Online
Mandatory or Optional:	Mandatory
Number of Questions:	16
Number of Questions to be attempted:	16
Section Marks:	20

Sub-Section Number:	1
Sub-Section Id:	5459272012
Question Shuffling Allowed :	Yes

Question Number : 141 Question Id : 54592733875 Question Type : MCQ Option Shuffling : Yes  
Correct Marks : 1 Wrong Marks : 0.25

The sentences of a paragraph have been jumbled up, and labeled P, Q, R and S. Select the option that gives the correct sequence in which these sentences should be rearranged to form a meaningful paragraph.

P: The urban-bred children could not stand the stench even for a minute.

Q: We all ran away from the stench, as fast as our tiny feet could take us.

R: The barn was spacious but there was a problem; it smelled of cattle dung and urine.

S: We didn't stop until we reached the gates of the old, haunted manor.

Options :

1. ✓ RPQS

2. ✗ SRQP

3. ✖ PQRS

4. ✖ RSQP

Question Number : 141 Question Id : 54592733875 Question Type : MCQ Option Shuffling : Yes  
Correct Marks : 1 Wrong Marks : 0.25

The sentences of a paragraph have been jumbled up, and labeled P, Q, R and S. Select the option that gives the correct sequence in which these sentences should be rearranged to form a meaningful paragraph.

P: The urban-bred children could not stand the stench even for a minute.

Q: We all ran away from the stench, as fast as our tiny feet could take us.

R: The barn was spacious but there was a problem; it smelled of cattle dung and urine.

S: We didn't stop until we reached the gates of the old, haunted manor.

Options :

1. ✔ RPQS

2. ✖ SRQP

3. ✖ PQRS

4. ✖ RSQP

Question Number : 142 Question Id : 54592733876 Question Type : MCQ Option Shuffling : Yes  
Correct Marks : 1 Wrong Marks : 0.25

Select the word that is closest in meaning (SYNONYM) to the word given below.

SPECIOUS

Options :

1. ✓ Deceptive
2. ✗ Substantive
3. ✗ Comfortable
4. ✗ Cosmic

Question Number : 142 Question Id : 54592733876 Question Type : MCQ Option Shuffling : Yes  
Correct Marks : 1 Wrong Marks : 0.25

Select the word that is closest in meaning (SYNONYM) to the word given below.

SPECIOUS

Options :

1. ✓ Deceptive
2. ✗ Substantive
3. ✗ Comfortable
4. ✗ Cosmic

Question Number : 143 Question Id : 54592733877 Question Type : MCQ Option Shuffling : Yes  
Correct Marks : 1 Wrong Marks : 0.25

Select the word that is opposite in meaning (ANTONYM) to the word given below.

DISTINCTION

Options :

1. ✓ Insignificance

2. ✖ Illusion

3. ✖ Prominence

4. ✖ Result

Question Number : 143 Question Id : 54592733877 Question Type : MCQ Option Shuffling : Yes  
Correct Marks : 1 Wrong Marks : 0.25

Select the word that is opposite in meaning (ANTONYM) to the word given below.

DISTINCTION

Options :

1. ✔ Insignificance

2. ✖ Illusion

3. ✖ Prominence

4. ✖ Result

Question Number : 144 Question Id : 54592733878 Question Type : MCQ Option Shuffling : Yes  
Correct Marks : 1 Wrong Marks : 0.25

Select the word that is opposite in meaning (ANTONYM) to the word given below.

TEMERITY

Options :

1. ✖ Ludicrity

2. ✔ Timidity

3. ✖ Effiminacy

4. ✖ Ecstacy

Question Number : 144 Question Id : 54592733878 Question Type : MCQ Option Shuffling : Yes  
Correct Marks : 1 Wrong Marks : 0.25

Select the word that is opposite in meaning (ANTONYM) to the word given below.

TEMERITY

Options :

1. ✖ Ludicrity
2. ✔ Timidity
3. ✖ Effiminacy
4. ✖ Ecstacy

Question Number : 145 Question Id : 54592733879 Question Type : MCQ Option Shuffling : Yes

Correct Marks : 1 Wrong Marks : 0.25

Select the word that is closest in meaning (SYNONYM) to the word given below.

Distinction

Finally, he remembered the \_\_\_\_\_ spelling of the word.

Options :

1. ✖ wright
2. ✖ write
3. ✔ right
4. ✖ rite

Question Number : 145 Question Id : 54592733879 Question Type : MCQ Option Shuffling : Yes

Correct Marks : 1 Wrong Marks : 0.25

Select the word that is closest in meaning (SYNONYM) to the word given below.

Distinction

Finally, he remembered the \_\_\_\_\_ spelling of the word.

Options :

1. ✖ wright
2. ✖ write
3. ✔ right
4. ✖ rite

Question Number : 146 Question Id : 54592733880 Question Type : MCQ Option Shuffling : Yes

Correct Marks : 1 Wrong Marks : 0.25

Select the correct word (HOMONYM) that fills in the blank and makes the sentence meaningful.

The black goose \_\_\_\_\_ a white egg.

Options :

1. ✖ led
2. ✔ laid
3. ✖ layed
4. ✖ lead

Question Number : 146 Question Id : 54592733880 Question Type : MCQ Option Shuffling : Yes

Correct Marks : 1 Wrong Marks : 0.25

Select the correct word (HOMONYM) that fills in the blank and makes the sentence meaningful.

The black goose \_\_\_\_\_ a white egg.

Options :

1. ✘ led
2. ✔ laid
3. ✘ layed
4. ✘ lead

Question Number : 147 Question Id : 54592733881 Question Type : MCQ Option Shuffling : Yes  
Correct Marks : 1 Wrong Marks : 0.25

Select the word that is spelled correctly.

Options :

1. ✘ Necessity
2. ✘ Nessecity
3. ✔ Necessity
4. ✘ Neseccity

Question Number : 147 Question Id : 54592733881 Question Type : MCQ Option Shuffling : Yes  
Correct Marks : 1 Wrong Marks : 0.25

Select the word that is spelled correctly.

Options :

1. ✘ Necessity
2. ✘ Nessecity
3. ✔ Necessity
4. ✘ Neseccity

Question Number : 148 Question Id : 54592733882 Question Type : MCQ Option Shuffling : Yes



Correct Marks : 1 Wrong Marks : 0.25

Select the word that is spelled correctly.

Options :

1. ✓ Predicament
2. ✗ Predecament
3. ✗ Predicement
4. ✗ Pradicament

Question Number : 148 Question Id : 54592733882 Question Type : MCQ Option Shuffling : Yes

Correct Marks : 1 Wrong Marks : 0.25

Select the word that is spelled correctly.

Options :

1. ✓ Predicament
2. ✗ Predecament
3. ✗ Predicement
4. ✗ Pradicament

Question Number : 149 Question Id : 54592733883 Question Type : MCQ Option Shuffling : Yes

Correct Marks : 1 Wrong Marks : 0.25

Select the word that is spelled correctly.

Options :

1. ✗ Conscienciously
2. ✗ Consceinciously
3. ✗ Conscientitiously
4. ✓ Conscientiously

Question Number : 149 Question Id : 54592733883 Question Type : MCQ Option Shuffling : Yes

Correct Marks : 1 Wrong Marks : 0.25

Select the word that is spelled correctly.

Options :

1. ✗ Conscienciously

2. ✖ Conceinciously

3. ✖ Conscientitiously

4. ✔ Conscientiously

Question Number : 150 Question Id : 54592733884 Question Type : MCQ Option Shuffling : Yes  
Correct Marks : 1 Wrong Marks : 0.25

Select the option that best expresses the meaning of the idiom or phrase given below.

To be as good as one's word

Options :

1. ✖ To gain advantage over someone, especially an opponent

2. ✖ To have a talent for speaking

3. ✔ To keep one's promise

4. ✖ To be wise beyond one's age

Question Number : 150 Question Id : 54592733884 Question Type : MCQ Option Shuffling : Yes  
Correct Marks : 1 Wrong Marks : 0.25

Select the option that best expresses the meaning of the idiom or phrase given below.

To be as good as one's word

Options :

1. ✖ To gain advantage over someone, especially an opponent

2. ✖ To have a talent for speaking

3. ✔ To keep one's promise

4. ✖ To be wise beyond one's age

Question Number : 151 Question Id : 54592733885 Question Type : MCQ Option Shuffling : Yes  
Correct Marks : 1 Wrong Marks : 0.25

Select the option that best expresses the meaning of the idiom or phrase given below.

To wash one's hands off something

Options :

1. ✖ To blame someone unfairly
2. ✖ To discuss unpleasant private matters before strangers
3. ✔ To refuse to be involved in something any longer
4. ✖ To flatter someone

Question Number : 151 Question Id : 54592733885 Question Type : MCQ Option Shuffling : Yes  
Correct Marks : 1 Wrong Marks : 0.25

Select the option that best expresses the meaning of the idiom or phrase given below.

To wash one's hands off something

Options :

1. ✖ To blame someone unfairly
2. ✖ To discuss unpleasant private matters before strangers
3. ✔ To refuse to be involved in something any longer
4. ✖ To flatter someone

Question Number : 152 Question Id : 54592733886 Question Type : MCQ Option Shuffling : Yes  
Correct Marks : 1 Wrong Marks : 0.25

Select the option that best expresses the meaning of the idiom or phrase given below.

To have an axe to grind

Options :

1. ✖ To have money making as the main aim
2. ✖ To take back what one has said
3. ✖ To have some secret information about someone
4. ✔ To have a strong personal opinion about something

Question Number : 152 Question Id : 54592733886 Question Type : MCQ Option Shuffling : Yes  
Correct Marks : 1 Wrong Marks : 0.25

Select the option that best expresses the meaning of the idiom or phrase given below.

To have an axe to grind

Options :

1. ✖ To have money making as the main aim
2. ✖ To take back what one has said
3. ✖ To have some secret information about someone
4. ✔ To have a strong personal opinion about something

Question Number : 153 Question Id : 54592733887 Question Type : MCQ Option Shuffling : Yes  
Correct Marks : 1 Wrong Marks : 0.25

Select the most appropriate 'one word ' for the expressions given below.

People who live at the same time

Options :

1. ✖ Volunteer
2. ✔ Contemporary
3. ✖ Colleague
4. ✖ Samaritan

Question Number : 153 Question Id : 54592733887 Question Type : MCQ Option Shuffling : Yes

Correct Marks : 1 Wrong Marks : 0.25

Select the most appropriate 'one word ' for the expressions given below.

People who live at the same time

Options :

1. ✘ Volunteer
2. ✔ Contemporary
3. ✘ Colleague
4. ✘ Samaritan

Question Number : 154 Question Id : 54592733888 Question Type : MCQ Option Shuffling : Yes

Correct Marks : 1 Wrong Marks : 0.25

Select the most appropriate 'one word ' for the expressions given below.

A peson who compiles a dictionary

Options :

1. ✔ Lexicographer
2. ✘ Dictator
3. ✘ Composer
4. ✘ Grammarian

Question Number : 154 Question Id : 54592733888 Question Type : MCQ Option Shuffling : Yes

Correct Marks : 1 Wrong Marks : 0.25

Select the most appropriate 'one word ' for the expressions given below.

A peson who compiles a dictionary

Options :

1. ✓ Lexicographer
2. ✗ Dictator
3. ✗ Composer
4. ✗ Grammarian

Question Number : 155 Question Id : 54592733889 Question Type : MCQ Option Shuffling : Yes  
Correct Marks : 1 Wrong Marks : 0.25

Select the most appropriate 'one word ' for the expressions given below.

A person who eats human flesh

Options :

1. ✗ Carnivore
2. ✗ Interregnum
3. ✓ Cannibal
4. ✗ Omnivore

Question Number : 155 Question Id : 54592733889 Question Type : MCQ Option Shuffling : Yes  
Correct Marks : 1 Wrong Marks : 0.25

Select the most appropriate 'one word ' for the expressions given below.

A person who eats human flesh

Options :

1. ✗ Carnivore
2. ✗ Interregnum
3. ✓ Cannibal

## 4. \* Omnivore

**Sub-Section Number:** 2  
**Sub-Section Id:** 5459272013  
**Question Shuffling Allowed :** Yes

**Question Id : 54592733890 Question Type : COMPREHENSION Sub Question Shuffling Allowed : Yes Group Comprehension Questions : No**

**Question Numbers : (156 to 160)**

**Question Label : Comprehension**

Read the passage below and answer the questions that follow.

Plato, the Athenian philosopher, is one of the most important influences on the ancient Greek and Western philosophy. Together with his his teacher, Socrates, and student, Aristotle, Plato laid foundation to the Western religion and spirituality. Plato lived during the 5th century BCE. He set up what many believe the world's first university, called the Academy. He also wrote extensively, some count put his philosophical texts to at least 25. As a result of Plato's fascination with mathematics, the Academy produced many famous later-day mathematicians. Acknowledging his role in their making, Plato was known as the "maker of mathematicians."

Plato's most famous work is the Republic, which details a wise society run by a philosopher king. Plato is also well-known for his dialogues. Most of his writing, except perhaps the Letters, is in the form of dialogues.

Plato is one of history's most influential philosophers. His contributions range across numerous philosophical subfields, including (but not limited to) ethics, cosmology, and metaphysics. Though he was not a scientist in the modern sense, Plato also examined the natural world and the philosophical implications it held. He dedicated his life to learning and teaching.

Sub questions

Question Number : 156 Question Id : 54592733891 Question Type : MCQ Option Shuffling : Yes

Correct Marks : 1 Wrong Marks : 0.25

Which among the following did Plato influence?



Options :

1. ✖ Iranian Philosophy
2. ✖ Indian Philosophy
3. ✖ Buddhist Philosophy
4. ✔ Greek Philosophy

Question Number : 157 Question Id : 54592733892 Question Type : MCQ Option Shuffling : Yes

Correct Marks : 1 Wrong Marks : 0.25

According to the passage, what does Plato's book Republic dwell upon?

Options :

1. ✔ A wise society run by a philosopher king
2. ✖ The rules to run the Greek republic
3. ✖ Plato's mathematical treatise
4. ✖ Letters from a wise king to his son

Question Number : 158 Question Id : 54592733893 Question Type : MCQ Option Shuffling : Yes

Correct Marks : 1 Wrong Marks : 0.25

According to the passage, who was Aristotle?

Options :

1. ✔ Plato's student
2. ✖ Socrates' student
3. ✖ Plato's teacher
4. ✖ Socrates' teacher

Question Number : 159 Question Id : 54592733894 Question Type : MCQ Option Shuffling : Yes

Correct Marks : 1 Wrong Marks : 0.25

According to the passage, which one of the following is the best reason why Plato was known as the "maker of mathematicians"?

Options :

1. ✖ Plato laid the foundation to modern mathematics.

2. ✖ Plato was himself a well-acclaimed mathematician.
3. ✔ Plato's Academy produced many famous mathematicians.
4. ✖ Along with Socrates and Aristotle, Plato built a school for mathematicians

Question Number : 160 Question Id : 54592733895 Question Type : MCQ Option Shuffling : Yes  
Correct Marks : 1 Wrong Marks : 0.25

The passage mentions a range of Plato's contributions. Which one of the following is NOT included in the list?

Options :

1. ✖ Ethics
2. ✔ Etymology
3. ✖ Cosmology
4. ✖ Metaphysics

Question Id : 54592733890 Question Type : COMPREHENSION Sub Question Shuffling Allowed : Yes Group Comprehension Questions : No

Question Numbers : (156 to 160)

Question Label : Comprehension

Read the passage below and answer the questions that follow.

Plato, the Athenian philosopher, is one of the most important influences on the ancient Greek and Western philosophy. Together with his his teacher, Socrates, and student, Aristotle, Plato laid foundation to the Western religion and spirituality. Plato lived during the 5th century BCE. He set up what many believe the world's first university, called the Academy. He also wrote extensively, some count put his philosophical texts to at least 25. As a result of Plato's fascination with mathematics, the Academy produced many famous later-day mathematicians. Acknowledging his role in their making, Plato was known as the "maker of mathematicians."

Plato's most famous work is the Republic, which details a wise society run by a philosopher king. Plato is also well-known for his dialogues. Most of his writing, except perhaps the Letters, is in the form of dialogues.

Plato is one of history's most influential philosophers. His contributions range across numerous philosophical subfields, including (but not limited to) ethics, cosmology, and metaphysics. Though he was not a scientist in the modern sense, Plato also examined the natural world and the philosophical implications it held. He dedicated his life to learning and teaching.

Sub questions

Question Number : 156 Question Id : 54592733891 Question Type : MCQ Option Shuffling : Yes  
Correct Marks : 1 Wrong Marks : 0.25

Which among the following did Plato influence?

Options :

1. ✘ Iranian Philosophy
2. ✘ Indian Philosophy
3. ✘ Buddhist Philosophy
4. ✔ Greek Philosophy

Question Number : 157 Question Id : 54592733892 Question Type : MCQ Option Shuffling : Yes  
Correct Marks : 1 Wrong Marks : 0.25

According to the passage, what does Plato's book Republic dwell upon?

Options :

1. ✔ A wise society run by a philosopher king
2. ✘ The rules to run the Greek republic
3. ✘ Plato's mathematical treatise
4. ✘ Letters from a wise king to his son

Question Number : 158 Question Id : 54592733893 Question Type : MCQ Option Shuffling : Yes  
Correct Marks : 1 Wrong Marks : 0.25

According to the passage, who was Aristotle?

Options :

1. ✔ Plato's student
2. ✘ Socrates' student
3. ✘ Plato's teacher
4. ✘ Socrates' teacher

Question Number : 159 Question Id : 54592733894 Question Type : MCQ Option Shuffling : Yes  
Correct Marks : 1 Wrong Marks : 0.25

According to the passage, which one of the following is the best reason why Plato was known as the “maker of mathematicians”?

Options :

1. ✘ Plato laid the foundation to modern mathematics.
2. ✘ Plato was himself a well-acclaimed mathematician.
3. ✔ Plato’s Academy produced many famous mathematicians.
4. ✘ Along with Socrates and Aristotle, Plato built a school for mathematicians

Question Number : 160 Question Id : 54592733895 Question Type : MCQ Option Shuffling : Yes  
Correct Marks : 1 Wrong Marks : 0.25

The passage mentions a range of Plato’s contributions. Which one of the following is NOT included in the list?

Options :

1. ✘ Ethics
2. ✔ Etymology
3. ✘ Cosmology
4. ✘ Metaphysics

## General Hindi1

Group Number :	9
Group Id :	5459271679
Group Maximum Duration :	0
Group Minimum Duration :	0
Show Attended Group? :	No
Edit Attended Group? :	No

Break time:	0
Group Marks:	20
Is this Group for Examiner?:	No
Revisit allowed for group Instructions? :	Yes
Maximum Instruction Time:	0
Minimum Instruction Time:	0

## General Hindi1

Section Id :	5459271679
Section Number :	1
Section type :	Online
Mandatory or Optional:	Mandatory
Number of Questions:	20
Number of Questions to be attempted:	20
Section Marks:	20

Sub-Section Number:	1
Sub-Section Id:	5459272014
Question Shuffling Allowed :	Yes

Question Number : 161 Question Id : 54592733896 Question Type : MCQ Option Shuffling : Yes  
Correct Marks : 1 Wrong Marks : 0.25

निम्नलिखित प्रश्न में, चार विकल्पों में से, उस विकल्प का चयन करें जो दिए गए शब्द के लिए सही संप्रदान तत्पुरुष समास के विग्रह का विकल्प हो।

देशभक्ति

Options :

1. \* देश का आग्रह
2. ✓ देश के लिए भक्ति
3. \* देश से भक्ति
4. \* देश और भक्ति

Question Number : 161 Question Id : 54592733896 Question Type : MCQ Option Shuffling : Yes  
Correct Marks : 1 Wrong Marks : 0.25

निम्नलिखित प्रश्न में, चार विकल्पों में से, उस विकल्प का चयन करें जो दिए गए शब्द के लिए सही संप्रदान तत्पुरुष समास के विग्रह का विकल्प हो:

देशभक्ति

Options :

1. \* देश का आग्रह
2. ✓ देश के लिए भक्ति
3. \* देश से भक्ति
4. \* देश और भक्ति

Question Number : 162 Question Id : 54592733897 Question Type : MCQ Option Shuffling : Yes  
Correct Marks : 1 Wrong Marks : 0.25

निम्नलिखित प्रश्न में, चार विकल्पों में से, उस विकल्प का चयन करें जो दिए गए शब्द का सही तत्सम रूप वाला विकल्प हो।

अमिय

Options :

1. \* आँसू
2. \* आधा
3. \* अचरज
4. ✓ अमृत

Question Number : 162 Question Id : 54592733897 Question Type : MCQ Option Shuffling : Yes  
Correct Marks : 1 Wrong Marks : 0.25

निम्नलिखित प्रश्न में, चार विकल्पों में से, उस विकल्प का चयन करें जो दिए गए शब्द का सही तत्सम रूप वाला विकल्प हो:

अमिय

Options :

1. ✖ आँसू
2. ✖ आधा
3. ✖ अचरज
4. ✔ अमृत

Question Number : 163 Question Id : 54592733898 Question Type : MCQ Option Shuffling : Yes

Correct Marks : 1 Wrong Marks : 0.25

निम्नलिखित प्रश्न में, चार विकल्पों में से, उस विकल्प का चयन करें जो देशज शब्द का सही विकल्प हो

Options :

1. ✔ भौंकना
2. ✖ चश्मा
3. ✖ टिकटघर
4. ✖ भैंस

Question Number : 163 Question Id : 54592733898 Question Type : MCQ Option Shuffling : Yes

Correct Marks : 1 Wrong Marks : 0.25

निम्नलिखित प्रश्न में, चार विकल्पों में से, उस विकल्प का चयन करें जो देशज शब्द का सही विकल्प हो

Options :

1. ✔ भौंकना
2. ✖ चश्मा
3. ✖ टिकटघर
4. ✖ भैंस

Question Number : 164 Question Id : 54592733899 Question Type : MCQ Option Shuffling : Yes

Correct Marks : 1 Wrong Marks : 0.25



निम्नलिखित प्रश्न में, चार विकल्पों में से, उस विकल्प का चयन करें जो सर्वनाम के भेद का सही विकल्प हो।

वह अपने आप गिर पड़ा।

Options :

1. ✓ निजवाचक
2. \* अनिश्चयवाचक सर्वनाम
3. \* उत्तम पुरुष
4. \* निश्चय वाचक

Question Number : 164 Question Id : 54592733899 Question Type : MCQ Option Shuffling : Yes

Correct Marks : 1 Wrong Marks : 0.25

निम्नलिखित प्रश्न में, चार विकल्पों में से, उस विकल्प का चयन करें जो सर्वनाम के भेद का सही विकल्प हो:

वह अपने आप गिर पड़ा।

Options :

1. ✓ निजवाचक
2. \* अनिश्चयवाचक सर्वनाम
3. \* उत्तम पुरुष
4. \* निश्चय वाचक

Question Number : 165 Question Id : 54592733900 Question Type : MCQ Option Shuffling : Yes

Correct Marks : 1 Wrong Marks : 0.25

निम्नलिखित प्रश्न में, चार विकल्पों में से, उस विकल्प का चयन करें जो दिए गए वाक्य के लिए अव्यय के भेद का सही विकल्प हो।

बाज़ार जाने के लिए निकला ही था कि अचानक मेहमान आ गए।

Options :

1. \* क्रियाविशेषण अव्यय

2. ✓ समुच्चयबोधक अव्यय

3. \* विस्मयादिबोधक अव्यय

4. \* संबंधबोधक अव्यय

Question Number : 165 Question Id : 54592733900 Question Type : MCQ Option Shuffling : Yes  
Correct Marks : 1 Wrong Marks : 0.25

निम्नलिखित प्रश्न में, चार विकल्पों में से, उस विकल्प का चयन करें जो दिए गए वाक्य के लिए अव्यय के भेद का सही विकल्प हो:

बाज़ार जाने के लिए निकला ही था कि अचानक मेहमान आ गए हैं।

Options :

1. \* क्रियाविशेषण अव्यय

2. ✓ समुच्चयबोधक अव्यय

3. \* विस्मयादिबोधक अव्यय

4. \* संबंधबोधक अव्यय

Question Number : 166 Question Id : 54592733901 Question Type : MCQ Option Shuffling : Yes  
Correct Marks : 1 Wrong Marks : 0.25

निम्नलिखित प्रश्न में, चार विकल्पों में से, उस विकल्प का चयन करें जो दिए गए शब्द के पर्यायवाची शब्द का सही विकल्प नहीं है।

गंगा -

Options :

1. \* निर्मला

2. \* सुरसरि

3. \* भागीरथी

4. ✓ कालिंदी

Question Number : 166 Question Id : 54592733901 Question Type : MCQ Option Shuffling : Yes  
Correct Marks : 1 Wrong Marks : 0.25

निम्नलिखित प्रश्न में, चार विकल्पों में से, उस विकल्प का चयन करें जो दिए गए शब्द के पर्यायवाची शब्द का सही विकल्प नहीं है।

गंगा -

Options :

1. \* निर्मला
2. \* सुरसरि
3. \* भागीरथी
4. ✓ कालिंदी

Question Number : 167 Question Id : 54592733902 Question Type : MCQ Option Shuffling : Yes

Correct Marks : 1 Wrong Marks : 0.25

निम्नलिखित प्रश्न में, चार विकल्पों में से, उस विकल्प का चयन करें जो दिए गए शब्द के विलोम शब्द का सही विकल्प है।

सर्वज्ञ -

Options :

1. \* सर्वस्व
2. \* संसार
3. ✓ अल्पज्ञ
4. \* दुनिया

Question Number : 167 Question Id : 54592733902 Question Type : MCQ Option Shuffling : Yes

Correct Marks : 1 Wrong Marks : 0.25

निम्नलिखित प्रश्न में, चार विकल्पों में से, उस विकल्प का चयन करें जो दिए गए शब्द के विलोम शब्द का सही विकल्प है।

सर्वज्ञ -

Options :

1. \* सर्वस्व
2. \* संसार
3. ✓ अल्पज्ञ
4. \* दुनिया

Question Number : 168 Question Id : 54592733903 Question Type : MCQ Option Shuffling : Yes  
Correct Marks : 1 Wrong Marks : 0.25

निम्नलिखित प्रश्न में, चार विकल्पों में से, उस सही विकल्प का चयन करें जो रिक्त स्थान के लिए उचित विकल्प हो:

हरियाली को \_\_\_\_\_ चिड़ियों की मधुर आवाज़ सुनना सभी को पसंद है।

Options :

1. \* आगे-आगे
2. \* हार-जीत
3. ✓ देखते-देखते
4. \* किनारे-किनारे

Question Number : 168 Question Id : 54592733903 Question Type : MCQ Option Shuffling : Yes  
Correct Marks : 1 Wrong Marks : 0.25

निम्नलिखित प्रश्न में, चार विकल्पों में से, उस सही विकल्प का चयन करें जो रिक्त स्थान के लिए उचित विकल्प हो।

हरियाली को \_\_\_\_\_ चिड़ियों की मधुर आवाज़ सुनना सभी को पसंद है।

Options :

1. \* आगे-आगे
2. \* हार-जीत
3. ✓ देखते-देखते

## 4. \* किनारे-किनारे

Question Number : 169 Question Id : 54592733904 Question Type : MCQ Option Shuffling : Yes

Correct Marks : 1 Wrong Marks : 0.25

निम्नलिखित प्रश्न में, चार विकल्पों में से, उस विकल्प का चयन करें जो दिए गए वाक्यांश के लिए एक शब्द का सही विकल्प है।

जो शीघ्र समझ में न आए -

Options :

1. \* सुबोध
2. ✓ दुर्बोध
3. \* अबोध
4. \* बोध

Question Number : 169 Question Id : 54592733904 Question Type : MCQ Option Shuffling : Yes

Correct Marks : 1 Wrong Marks : 0.25

निम्नलिखित प्रश्न में, चार विकल्पों में से, उस विकल्प का चयन करें जो दिए गए वाक्यांश के लिए एक शब्द का सही विकल्प है।

जो शीघ्र समझ में न आए -

Options :

1. \* सुबोध
2. ✓ दुर्बोध
3. \* अबोध
4. \* बोध

Question Number : 170 Question Id : 54592733905 Question Type : MCQ Option Shuffling : Yes

Correct Marks : 1 Wrong Marks : 0.25

निम्नलिखित प्रश्न में, चार विकल्पों में से, उस सही विकल्प का चयन करें जो रिक्त स्थान के लिए उचित विकल्प हो।

\_\_\_\_\_ के कारण चेहरे की शोभा ही चली गई।

Options :

1. ✖ करांति
2. ✖ क्रांति
3. ✖ कांति
4. ✓ कलांति

Question Number : 170 Question Id : 54592733905 Question Type : MCQ Option Shuffling : Yes

Correct Marks : 1 Wrong Marks : 0.25

निम्नलिखित प्रश्न में, चार विकल्पों में से, उस सही विकल्प का चयन करें जो रिक्त स्थान के लिए उचित विकल्प हो।

\_\_\_\_\_ के कारण चेहरे की शोभा ही चली गई।

Options :

1. ✖ करांति
2. ✖ क्रांति
3. ✖ कांति
4. ✓ कलांति

Question Number : 171 Question Id : 54592733906 Question Type : MCQ Option Shuffling : Yes

Correct Marks : 1 Wrong Marks : 0.25

निम्नलिखित प्रश्न में, चार विकल्पों में से, उस विकल्प का चयन करें जो दिए गए शब्द के समानार्थी शब्द का सही विकल्प नहीं है।

ऊसर -

Options :

1. ✓ रासभ

2. \* अनुर्वर

3. \* वंध्य

4. \* बंजर

Question Number : 171 Question Id : 54592733906 Question Type : MCQ Option Shuffling : Yes

Correct Marks : 1 Wrong Marks : 0.25

निम्नलिखित प्रश्न में, चार विकल्पों में से, उस विकल्प का चयन करें जो दिए गए शब्द के समानार्थी शब्द का सही विकल्प नहीं है।

ऊसर -

Options :

1. ✓ रासभ

2. \* अनुर्वर

3. \* वंध्य

4. \* बंजर

Question Number : 172 Question Id : 54592733907 Question Type : MCQ Option Shuffling : Yes

Correct Marks : 1 Wrong Marks : 0.25

निम्नलिखित प्रश्न में, चार विकल्पों में से, उस विकल्प का चयन करें जो रिक्त स्थान के लिए उपयुक्त शब्द का सही विकल्प नहीं है।

\_\_\_\_\_ आपकी बहुत प्रशंसा करता है।

Options :

1. \* उन्होंने

2. \* उस

3. \* मैं

4. ✓ वह

Question Number : 172 Question Id : 54592733907 Question Type : MCQ Option Shuffling : Yes

Correct Marks : 1 Wrong Marks : 0.25

निम्नलिखित प्रश्न में, चार विकल्पों में से, उस विकल्प का चयन करें जो रिक्त स्थान के लिए उपयुक्त शब्द का सही विकल्प नहीं है।

\_\_\_\_\_ आपकी बहुत प्रशंसा करता है।

Options :

1. \* उन्होंने
2. \* उस
3. \* मैं
4. ✓ वह

Question Number : 173 Question Id : 54592733908 Question Type : MCQ Option Shuffling : Yes

Correct Marks : 1 Wrong Marks : 0.25

निम्नलिखित प्रश्न में, चार विकल्पों में से, उस विकल्प का चयन करें जो शुद्ध शब्द का सही विकल्प है।

Options :

1. \* अकरमन्य
2. \* अकरामनाया
3. \* अक्रमन्य
4. ✓ अकर्मण्य

Question Number : 173 Question Id : 54592733908 Question Type : MCQ Option Shuffling : Yes

Correct Marks : 1 Wrong Marks : 0.25

निम्नलिखित प्रश्न में, चार विकल्पों में से, उस विकल्प का चयन करें जो शुद्ध शब्द का सही विकल्प है ।

Options :

1. \* अकरमन्य
2. \* अकरामनाया
3. \* अक्रमन्य
4. ✓ अकर्मण्य



Question Number : 174 Question Id : 54592733909 Question Type : MCQ Option Shuffling : Yes

Correct Marks : 1 Wrong Marks : 0.25

निम्नलिखित प्रश्न में, चार विकल्पों में से, उस विकल्प का चयन करें जो शुद्ध शब्द का सही विकल्प है।

Options :

1. \* प्रसातुतीकरण
2. \* प्रस्तूतिकरण
3. ✓ प्रस्तुतीकरण
4. \* प्रसतुतीकारण

Question Number : 174 Question Id : 54592733909 Question Type : MCQ Option Shuffling : Yes

Correct Marks : 1 Wrong Marks : 0.25

निम्नलिखित प्रश्न में, चार विकल्पों में से, उस विकल्प का चयन करें जो शुद्ध शब्द का सही विकल्प है ।

Options :

1. \* प्रसातुतीकरण
2. \* प्रस्तूतिकरण
3. ✓ प्रस्तुतीकरण
4. \* प्रसतुतीकारण

Question Number : 175 Question Id : 54592733910 Question Type : MCQ Option Shuffling : Yes

Correct Marks : 1 Wrong Marks : 0.25

निम्नलिखित प्रश्न में, चार विकल्पों में से, उस विकल्प का चयन करें जो शुद्ध शब्द का सही विकल्प है।

Options :

1. \* आदरनीय
2. \* आदर्णीय
3. \* आदरणिय
4. ✓ आदरणीय

Question Number : 175 Question Id : 54592733910 Question Type : MCQ Option Shuffling : Yes

Correct Marks : 1 Wrong Marks : 0.25

निम्नलिखित प्रश्न में, चार विकल्पों में से, उस विकल्प का चयन करें जो शुद्ध शब्द का सही विकल्प है ।

Options :

1. \* आदरनीय
2. \* आदर्णीय
3. \* आदरणिय
4. ✓ आदरणीय

Question Number : 176 Question Id : 54592733911 Question Type : MCQ Option Shuffling : Yes

Correct Marks : 1 Wrong Marks : 0.25

निम्नलिखित प्रश्न में, चार विकल्पों में से, उस विकल्प का चयन करें जो सदा स्त्रीलिंग शब्द वाला सही विकल्प है।

Options :

1. ✓ हिम्मत
2. \* यात्री
3. \* संकोच
4. \* होश

Question Number : 176 Question Id : 54592733911 Question Type : MCQ Option Shuffling : Yes

Correct Marks : 1 Wrong Marks : 0.25

निम्नलिखित प्रश्न में, चार विकल्पों में से, उस विकल्प का चयन करें जो सदा स्त्रीलिंग शब्द वाला सही विकल्प है

Options :

1. ✓ हिम्मत
2. \* यात्री
3. \* संकोच
4. \* होश

Question Number : 177 Question Id : 54592733912 Question Type : MCQ Option Shuffling : Yes

Correct Marks : 1 Wrong Marks : 0.25

निम्नलिखित प्रश्न में, चार विकल्पों में से, उस विकल्प का चयन करें जो दिए गए शब्द का सही स्त्रीलिंग वाला शब्द है।

अभिमानी

Options :

1. \* अभिमारिणी
2. \* अभिमात्री
3. \* अभिमान
4. ✓ अभिमानीनी

Question Number : 177 Question Id : 54592733912 Question Type : MCQ Option Shuffling : Yes

Correct Marks : 1 Wrong Marks : 0.25

निम्नलिखित प्रश्न में, चार विकल्पों में से, उस विकल्प का चयन करें जो दिए गए शब्द का सही स्त्रीलिंग वाला शब्द है।

अभिमानी

Options :

1. \* अभिमारिणी
2. \* अभिमात्री
3. \* अभिमान
4. ✓ अभिमानीनी

Question Number : 178 Question Id : 54592733913 Question Type : MCQ Option Shuffling : Yes

Correct Marks : 1 Wrong Marks : 0.25

निम्नलिखित प्रश्न में, चार विकल्पों में से, उस विकल्प का चयन करें जो दिए गए शब्द के लिए बहुवचन शब्द का सबसे अच्छा विकल्प है।

गाथा

Options :

1. \* गाथाओं

2. \* गाथाये

3. ✓ गाथाएँ

4. \* गाथे

Question Number : 178 Question Id : 54592733913 Question Type : MCQ Option Shuffling : Yes

Correct Marks : 1 Wrong Marks : 0.25

निम्नलिखित प्रश्न में, चार विकल्पों में से, उस विकल्प का चयन करें जो दिए गए शब्द के लिए बहुवचन शब्द का सबसे अच्छा विकल्प है।

गाथा

Options :

1. \* गाथाओं

2. \* गाथाये

3. ✓ गाथाएँ

4. \* गाथे

Question Number : 179 Question Id : 54592733914 Question Type : MCQ Option Shuffling : Yes

Correct Marks : 1 Wrong Marks : 0.25

निम्नलिखित प्रश्न में, चार विकल्पों में से, उस विकल्प का चयन करें जो कोष्ठक में दिए गए शब्द के अनुसार अन्य पुरुष वाचक सर्वनाम का सही विकल्प हो

Options :

1. \* (तुमको) किसी भी चीज की ज़रूरत हो तो बताना।

2. \* यह (मेरा) पुरस्कार है।

3. ✓ मैंने (उसे) पानी लेने के लिए भेजा था।

4. \* (तुमने) सच क्यों नहीं बताया।

Question Number : 179 Question Id : 54592733914 Question Type : MCQ Option Shuffling : Yes

Correct Marks : 1 Wrong Marks : 0.25

निम्नलिखित प्रश्न में, चार विकल्पों में से, उस विकल्प का चयन करें जो कोष्ठक में दिए गए शब्द के अनुसार अन्य पुरुष वाचक सर्वनाम का सही विकल्प हो

Options :

1. \* (तुमको) किसी भी चीज की ज़रूरत हो तो बताना।
2. \* यह (मेरा) पुरस्कार है।
3. ✓ मैंने (उसे) पानी लेने के लिए भेजा था।
4. \* (तुमने) सच क्यों नहीं बताया।

Question Number : 180 Question Id : 54592733915 Question Type : MCQ Option Shuffling : Yes

Correct Marks : 1 Wrong Marks : 0.25

निम्नलिखित प्रश्न में, चार विकल्पों में से, उस विकल्प का चयन करें जो दिए गए वाक्य के काल का सही विकल्प हो।

मेरे दोस्त बगीचे में आ गए होंगे।

Options :

1. \* संभाव्य भविष्यकाल
2. \* अपूर्ण वर्तमानकाल
3. ✓ संदिग्ध वर्तमानकाल
4. \* हेतुहेतु मद् भूतकाल

Question Number : 180 Question Id : 54592733915 Question Type : MCQ Option Shuffling : Yes

Correct Marks : 1 Wrong Marks : 0.25

निम्नलिखित प्रश्न में, चार विकल्पों में से, उस विकल्प का चयन करें जो दिए गए वाक्य के काल का सही विकल्प हो:

मेरे दोस्त बगीचे में आ गए होंगे।

Options :

1. \* संभाव्य भविष्यकाल

2. ✖ अपूर्ण वर्तमानकाल
3. ✔ संदिग्ध वर्तमानकाल
4. ✖ हेतुहेतु मद भूतकाल

## General Hindi2

Group Number :	10
Group Id :	5459271680
Group Maximum Duration :	0
Group Minimum Duration :	120
Show Attended Group? :	No
Edit Attended Group? :	No
Break time:	0
Group Marks:	20
Is this Group for Examiner? :	No
Revisit allowed for group Instructions? :	Yes
Maximum Instruction Time:	0
Minimum Instruction Time:	0

## General Hindi2

Section Id :	5459271680
Section Number :	1
Section type :	Online
Mandatory or Optional:	Mandatory
Number of Questions:	16
Number of Questions to be attempted:	16
Section Marks:	20

Sub-Section Number:	1
Sub-Section Id:	5459272015
Question Shuffling Allowed :	Yes

Question Number : 181 Question Id : 54592733916 Question Type : MCQ Option Shuffling : Yes  
Correct Marks : 1 Wrong Marks : 0.25

निम्नलिखित प्रश्न में, चार विकल्पों में से, उस विकल्प का चयन करें जो दिए गए वाक्य के लिए वृत्ति के भेद का सबसे अच्छा विकल्प है।

हम सभी भारत का मैच देख रहे हैं।

Options :

1. \* विध्यर्थ
2. \* संकेतार्थ
3. \* संदेहार्थ
4. ✓ निश्चयार्थ

Question Number : 181 Question Id : 54592733916 Question Type : MCQ Option Shuffling : Yes  
Correct Marks : 1 Wrong Marks : 0.25

निम्नलिखित प्रश्न में, चार विकल्पों में से, उस विकल्प का चयन करें जो दिए गए वाक्य के लिए वृत्ति के भेद का सबसे अच्छा विकल्प है।

हम सभी भारत का मैच देख रहे हैं।

Options :

1. \* विध्यर्थ
2. \* संकेतार्थ
3. \* संदेहार्थ
4. ✓ निश्चयार्थ

Question Number : 182 Question Id : 54592733917 Question Type : MCQ Option Shuffling : Yes  
Correct Marks : 1 Wrong Marks : 0.25

निम्नलिखित प्रश्न में, चार विकल्पों में से, उस विकल्प का चयन करें जो दिए गए वाक्य के लिए पक्ष के भेद का सबसे अच्छा विकल्प है।

अब तक दीपा काफ़ी पढ़ चुकी है!

Options :

1. ✓ पूर्णताद्योतक
2. \* अभ्यासद्योतक
3. \* आरंभद्योतक
4. \* नित्यताद्योतक

Question Number : 182 Question Id : 54592733917 Question Type : MCQ Option Shuffling : Yes  
Correct Marks : 1 Wrong Marks : 0.25

निम्नलिखित प्रश्न में, चार विकल्पों में से, उस विकल्प का चयन करें जो दिए गए वाक्य के लिए पक्ष के भेद का सबसे अच्छा विकल्प है।

अब तक दीपा काफ़ी पढ़ चुकी है।

Options :

1. ✓ पूर्णताद्योतक
2. \* अभ्यासद्योतक
3. \* आरंभद्योतक
4. \* नित्यताद्योतक

Question Number : 183 Question Id : 54592733918 Question Type : MCQ Option Shuffling : Yes

Correct Marks : 1 Wrong Marks : 0.25

निम्न विकल्पों में से निर्देशानुसार वाच्य परिवर्तन का विकल्प चुनिए।

हम हरी सब्जियाँ खाएँगे (कर्मवाच्य)

Options :

1. \* हम खाये हरी सब्जी
2. \* हरी सब्जियाँ हमने खाया
3. \* हरी सब्जियाँ हम खाएँ
4. ✓ हमारे द्वारा हरी सब्जियाँ खाई गई

Question Number : 183 Question Id : 54592733918 Question Type : MCQ Option Shuffling : Yes

Correct Marks : 1 Wrong Marks : 0.25

निम्न विकल्पों में से निर्देशानुसार वाच्य परिवर्तन का विकल्प चुनिए।

हम हरी सब्जियाँ खाएँगे (कर्मवाच्य)

Options :

1. \* हम खाये हरी सब्जी
2. \* हरी सब्जियाँ हमने खाया



3. \* हरी सब्जियाँ हम खाएँ

4. ✓ हमारे द्वारा हरी सब्जियाँ खाई गई

Question Number : 184 Question Id : 54592733919 Question Type : MCQ Option Shuffling : Yes

Correct Marks : 1 Wrong Marks : 0.25

निम्नलिखित प्रश्न में, चार विकल्पों में से, उस विकल्प का चयन करें जो विलोम शब्द का सबसे अच्छा विकल्प है।

जब बहुत कहा, तब भी वह न रुका।

Options :

1. \* विधानवाचक वाक्य

2. \* सरल वाक्य

3. ✓ मिश्र वाक्य

4. \* संयुक्त वाक्य

Question Number : 184 Question Id : 54592733919 Question Type : MCQ Option Shuffling : Yes

Correct Marks : 1 Wrong Marks : 0.25

निम्नलिखित प्रश्न में, चार विकल्पों में से, उस विकल्प का चयन करें जो विलोम शब्द का सबसे अच्छा विकल्प है।

जब बहुत कहा, तब भी वह न रुका।

Options :

1. \* विधानवाचक वाक्य

2. \* सरल वाक्य

3. ✓ मिश्र वाक्य

4. \* संयुक्त वाक्य

Question Number : 185 Question Id : 54592733920 Question Type : MCQ Option Shuffling : Yes

Correct Marks : 1 Wrong Marks : 0.25

निम्नलिखित प्रश्न में, चार विकल्पों में से, उस विकल्प का चयन करें जो सही वाक्य भेद का विकल्प हो।

बारिश हो रही थी और उसका पैर फिसल गया।

Options :

1. \* विधानवाचक वाक्य
2. \* सरल वाक्य
3. \* मिश्र वाक्य
4. ✓ संयुक्त वाक्य

Question Number : 185 Question Id : 54592733920 Question Type : MCQ Option Shuffling : Yes

Correct Marks : 1 Wrong Marks : 0.25

निम्नलिखित प्रश्न में, चार विकल्पों में से, उस विकल्प का चयन करें जो सही वाक्य भेद का विकल्प हो:

बारिश हो रही थी और उसका पैर फिसल गया।

Options :

1. \* विधानवाचक वाक्य
2. \* सरल वाक्य
3. \* मिश्र वाक्य
4. ✓ संयुक्त वाक्य

Question Number : 186 Question Id : 54592733921 Question Type : MCQ Option Shuffling : Yes

Correct Marks : 1 Wrong Marks : 0.25

निम्नलिखित प्रश्न में, चार विकल्पों में से, उस विकल्प का चयन करें जो सही वाक्य भेद का विकल्प हो।

नाटक देखने जाने के लिए तैयार हो जाओ।

Options :

1. \* विधानवाचक वाक्य

2. ✓ सरल वाक्य

3. ✘ मिश्र वाक्य

4. ✘ संयुक्त वाक्य

Question Number : 186 Question Id : 54592733921 Question Type : MCQ Option Shuffling : Yes

Correct Marks : 1 Wrong Marks : 0.25

निम्नलिखित प्रश्न में, चार विकल्पों में से, उस विकल्प का चयन करें जो सही वाक्य भेद का विकल्प हो:

नाटक देखने जाने के लिए तैयार हो जाओ।

Options :

1. ✘ विधानवाचक वाक्य

2. ✓ सरल वाक्य

3. ✘ मिश्र वाक्य

4. ✘ संयुक्त वाक्य

Question Number : 187 Question Id : 54592733922 Question Type : MCQ Option Shuffling : Yes

Correct Marks : 1 Wrong Marks : 0.25

निम्नलिखित प्रश्न में, चार विकल्पों में से, उस विकल्प का चयन करें जो शुद्ध वाक्य का सबसे अच्छा विकल्प है।

Options :

1. ✘ कर रहे हो तुम झगड़ा बेकार की बात पर

2. ✘ झगड़ा कर रहे हो तुम बेकार की बात पर

3. ✘ बेकार की बातों पर तुम्हें झगड़ा मत करो

4. ✓ तुम बेकार की बातों पर झगड़ा कर रहे हो

Question Number : 187 Question Id : 54592733922 Question Type : MCQ Option Shuffling : Yes

Correct Marks : 1 Wrong Marks : 0.25

निम्नलिखित प्रश्न में, चार विकल्पों में से, उस विकल्प का चयन करें जो शुद्ध वाक्य का सबसे अच्छा विकल्प है।

Options :

1. \* कर रहे हो तुम झगड़ा बेकार की बात पर
2. \* झगड़ा कर रहे हो तुम बेकार की बात पर
3. \* बेकार की बातों पर तुम्हें झगड़ा मत करो
4. ✓ तुम बेकार की बातों पर झगड़ा कर रहे हो

Question Number : 188 Question Id : 54592733923 Question Type : MCQ Option Shuffling : Yes  
Correct Marks : 1 Wrong Marks : 0.25

निम्नलिखित प्रश्न में, चार विकल्पों में से, उस विकल्प का चयन करें जो विराम चिह्न युक्त वाक्य का सही विकल्प हो।

Options :

1. ✓ मैं कौन हूँ, कहाँ जा रहा हूँ, इससे आपको क्या मतलब?
2. \* मैं कौन हूँ, कहाँ जा रहा हूँ, इससे आपको क्या मतलब
3. \* मैं कौन हूँ कहाँ जा रहा हूँ इससे आपको क्या मतलब?
4. \* मैं कौन हूँ, कहाँ जा रहा हूँ, "इससे आपको क्या मतलब? "

Question Number : 188 Question Id : 54592733923 Question Type : MCQ Option Shuffling : Yes  
Correct Marks : 1 Wrong Marks : 0.25

निम्नलिखित प्रश्न में, चार विकल्पों में से, उस विकल्प का चयन करें जो विराम चिह्न युक्त वाक्य का सही विकल्प हो

Options :

1. ✓ मैं कौन हूँ, कहाँ जा रहा हूँ, इससे आपको क्या मतलब?
2. \* मैं कौन हूँ, कहाँ जा रहा हूँ, इससे आपको क्या मतलब
3. \* मैं कौन हूँ कहाँ जा रहा हूँ इससे आपको क्या मतलब?
4. \* मैं कौन हूँ, कहाँ जा रहा हूँ, "इससे आपको क्या मतलब? "

Question Number : 189 Question Id : 54592733924 Question Type : MCQ Option Shuffling : Yes  
Correct Marks : 1 Wrong Marks : 0.25

निम्नलिखित प्रश्न में, चार विकल्पों में से, उस विकल्प का चयन करें जो विराम चिह्न युक्त वाक्य का सही विकल्प हो।

Options :

1. \* अध्यापक आए पुस्तक निकाली जोर-जोर से पढ़ाने लगे।

2. \* अध्यापक आए, पुस्तक निकाली, जोर, जोर से पढ़ाने लगे
3. \* अध्यापक आए, पुस्तक निकाली, " जोर-जोर से पढ़ाने लगे। "
4. ✓ अध्यापक आए, पुस्तक निकाली, जोर-जोर से पढ़ाने लगे।

Question Number : 189 Question Id : 54592733924 Question Type : MCQ Option Shuffling : Yes  
Correct Marks : 1 Wrong Marks : 0.25

निम्नलिखित प्रश्न में, चार विकल्पों में से, उस विकल्प का चयन करें जो विराम चिह्न युक्त वाक्य का सही विकल्प हो

- Options :
1. \* अध्यापक आए पुस्तक निकाली जोर-जोर से पढ़ाने लगे।
  2. \* अध्यापक आए, पुस्तक निकाली, जोर, जोर से पढ़ाने लगे
  3. \* अध्यापक आए, पुस्तक निकाली, " जोर-जोर से पढ़ाने लगे। "
  4. ✓ अध्यापक आए, पुस्तक निकाली, जोर-जोर से पढ़ाने लगे।

Question Number : 190 Question Id : 54592733925 Question Type : MCQ Option Shuffling : Yes  
Correct Marks : 1 Wrong Marks : 0.25

निम्नलिखित प्रश्न में, चार विकल्पों में से, उस विकल्प का चयन करें जो दिए गए रिक्त स्थान के लिए सही मुहावरे वाला विकल्प है।

रामू ने अपने व्यवसाय को आगे लाने के लिए \_\_\_\_\_ है।

- Options :
1. \* कंधे से कन्धा मिलाना
  2. \* कत्री काट ली है
  3. ✓ कमर कस ली है
  4. \* आसमान सिर पर उठाना

Question Number : 190 Question Id : 54592733925 Question Type : MCQ Option Shuffling : Yes  
Correct Marks : 1 Wrong Marks : 0.25

निम्नलिखित प्रश्न में, चार विकल्पों में से, उस विकल्प का चयन करें जो दिए गए रिक्त स्थान के लिए सही मुहावरे वाला विकल्प है।

रामू ने अपने व्यवसाय को आगे लाने के लिए \_\_\_\_\_ है।

Options :

1. \* कंधे से कन्धा मिलाना
2. \* कन्नी काट ली है
3. ✓ कमर कस ली है
4. \* आसमान सिर पर उठाना

Question Number : 191 Question Id : 54592733926 Question Type : MCQ Option Shuffling : Yes

Correct Marks : 1 Wrong Marks : 0.25

निम्नलिखित प्रश्न में, चार विकल्पों में से, उस विकल्प का चयन करें जो दिए गए रिक्त स्थान के लिए सही मुहावरे वाला विकल्प है।

आजकल हर वस्तु के दाम \_\_\_\_\_ पर पहुँच गए हैं।

Options :

1. \* तीसरे आसमान
2. ✓ सातवें आसमान
3. \* ज़मीन
4. \* पाँचवे आसमान

Question Number : 191 Question Id : 54592733926 Question Type : MCQ Option Shuffling : Yes

Correct Marks : 1 Wrong Marks : 0.25

निम्नलिखित प्रश्न में, चार विकल्पों में से, उस विकल्प का चयन करें जो दिए गए रिक्त स्थान के लिए सही मुहावरे वाला विकल्प है।

आजकल हर वस्तु के दाम \_\_\_\_\_ पर पहुँच गए हैं।

Options :

1. \* तीसरे आसमान
2. ✓ सातवें आसमान
3. \* जमीन
4. \* पाँचवे आसमान

Question Number : 192 Question Id : 54592733927 Question Type : MCQ Option Shuffling : Yes  
Correct Marks : 1 Wrong Marks : 0.25

निम्नलिखित प्रश्न में, चार विकल्पों में से, उस विकल्प का चयन करें जो दिए गए रिक्त स्थान के लिए सही मुहावरे वाला विकल्प है।

दुखी क्यों होते हो भगवान जब देगा तो \_\_\_\_\_ देगा।

Options :

1. \* छठी का दूध याद दिलाना
2. \* छक्के छुड़ाना
3. ✓ छप्पर फाड़ कर देगा
4. \* चैन की बंसी बजाना

Question Number : 192 Question Id : 54592733927 Question Type : MCQ Option Shuffling : Yes  
Correct Marks : 1 Wrong Marks : 0.25

निम्नलिखित प्रश्न में, चार विकल्पों में से, उस विकल्प का चयन करें जो दिए गए रिक्त स्थान के लिए सही मुहावरे वाला विकल्प है।

दुखी क्यों होते हो भगवान जब देगा तो \_\_\_\_\_ देगा।

Options :

1. \* छठी का दूध याद दिलाना
2. \* छक्के छुड़ाना
3. ✓ छप्पर फाड़ कर देगा
4. \* चैन की बंसी बजाना

Question Number : 193 Question Id : 54592733928 Question Type : MCQ Option Shuffling : Yes  
Correct Marks : 1 Wrong Marks : 0.25

निम्नलिखित प्रश्न में, चार विकल्पों में से, उस विकल्प का चयन करें जो दिए गए वाक्यांश के लिए सही लोकोक्ति वाला विकल्प है।

अधिक परिश्रम, कम लाभ

Options :

1. \* जहाँ चाह वहाँ राह
2. ✓ खोदा पहाड़, निकली चुहिया
3. \* खरी मजूरी चोखा काम
4. \* जैसा करेगा वैसा भरेगा

Question Number : 193 Question Id : 54592733928 Question Type : MCQ Option Shuffling : Yes  
Correct Marks : 1 Wrong Marks : 0.25

निम्नलिखित प्रश्न में, चार विकल्पों में से, उस विकल्प का चयन करें जो दिए गए वाक्यांश के लिए सही लोकोक्ति वाला विकल्प है।

अधिक परिश्रम, कम लाभ

Options :

1. \* जहाँ चाह वहाँ राह
2. ✓ खोदा पहाड़, निकली चुहिया
3. \* खरी मजूरी चोखा काम
4. \* जैसा करेगा वैसा भरेगा

Question Number : 194 Question Id : 54592733929 Question Type : MCQ Option Shuffling : Yes  
Correct Marks : 1 Wrong Marks : 0.25

निम्नलिखित प्रश्न में, चार विकल्पों में से, उस विकल्प का चयन करें जो दिए गए वाक्यांश के लिए सही लोकोक्ति वाला विकल्प है।

असहाय को थोड़ा सहारा भी बहुत होता है

Options :



1. \* थोथा चना बाजे घना
2. \* छोटे मुँह बड़ी बात
3. \* जिसकी लाठी उसकी भैंस
4. ✓ डूबते को तिनके का सहारा

Question Number : 194 Question Id : 54592733929 Question Type : MCQ Option Shuffling : Yes  
Correct Marks : 1 Wrong Marks : 0.25

निम्नलिखित प्रश्न में, चार विकल्पों में से, उस विकल्प का चयन करें जो दिए गए वाक्यांश के लिए सही लोकोक्ति वाला विकल्प है।

असहाय को थोड़ा सहारा भी बहुत होता है

Options :

1. \* थोथा चना बाजे घना
2. \* छोटे मुँह बड़ी बात
3. \* जिसकी लाठी उसकी भैंस
4. ✓ डूबते को तिनके का सहारा

Question Number : 195 Question Id : 54592733930 Question Type : MCQ Option Shuffling : Yes  
Correct Marks : 1 Wrong Marks : 0.25

निम्नलिखित प्रश्न में, चार विकल्पों में से, उस सही विकल्प का चयन करें जो दिए गए वाक्यांश के लिए सही लोकोक्ति वाला विकल्प है।

सुख के बदले दुःख मिला

Options :

1. \* खोदा पहाड़ निकली चुहिया
2. ✓ गए थे रोज़ा छुड़ाने, गले पड़ी नमाज़
3. \* घर का भेदी लंका ढाए
4. \* कोठी में अनाज घर में उपवास

Question Number : 195 Question Id : 54592733930 Question Type : MCQ Option Shuffling : Yes  
Correct Marks : 1 Wrong Marks : 0.25

निम्नलिखित प्रश्न में, चार विकल्पों में से, उस सही विकल्प का चयन करें जो दिए गए वाक्यांश के लिए सही लोकोक्ति वाला विकल्प है।

सुख के बदले दुःख मिला

Options :

1. \* खोदा पहाड़ निकली चुहिया
2. ✓ गए थे रोज़ा छुड़ाने, गले पड़ी नमाज़
3. \* घर का भेदी लंका ढाए
4. \* कोठी में अनाज घर में उपवास

Sub-Section Number:	2
Sub-Section Id:	5459272016
Question Shuffling Allowed :	Yes

Question Id : 54592733931 Question Type : COMPREHENSION Sub Question Shuffling Allowed : Yes Group Comprehension Questions : No

Question Numbers : (196 to 200)

Question Label : Comprehension

इस गद्यांश को ध्यानपूर्वक पढ़ें और चार विकल्पों में से प्रत्येक प्रश्न का सर्वोत्तम उत्तर चुनें।

उन्नीसवीं शताब्दी के अंत में जो अनेक सुधार आंदोलन चले उन्हें भी हिंदी से प्रचार मिला। बीसवीं शताब्दी में राष्ट्रीय मुक्ति आंदोलन के नेता चाहे गाँधी रहे या सुभाष, तिलक रहे या लाला लाजपतराय-सभी ने एक मत से हिंदी को ही राष्ट्रीय एकता, सांस्कृतिक जागरण और स्वराज्य की भावना का संबल बनाया, इसलिए सन् १९३० ई में ही भारतीय राष्ट्रीय कांग्रेस ने हिंदी को राष्ट्रभाषा बनाने का संकल्प ले लिया था। १९४७ में भारत के स्वतंत्र होने पर नए संविधान द्वारा इस भाषा के उत्थान के लिए हिंदी को राष्ट्रभाषा और देवनागरी को राष्ट्रीय लिपि घोषित किया गया, परंतु इसी स्वाधीनता के साथ देश के विभाजन का भी वज्रपात हुआ। मुस्लिम आबादी वाले कुछ क्षेत्र पाकिस्तान के नाम से अलग कर दिए गए और उसकी भाषा उर्दू को इस विभाजन का आधार बनाया गया। इस तरह हिंदी-उर्दू का जो विवाद केवल अखबारों तक सीमित था उसे स्वीकृति मिल गई। इधर, १९५० ई, में नया संविधान लागू करते समय पंद्रह वर्ष तक अंग्रेज़ी में सरकारी काम चलाने का विचार किया गया, क्योंकि सौ-डेढ़ सौ वर्ष से यहीं राजभाषा बनी हुई थी।

Sub questions

Question Number : 196 Question Id : 54592733932 Question Type : MCQ Option Shuffling : Yes

Correct Marks : 1 Wrong Marks : 0.25

उन्नीसवीं शताब्दी के अंत में सुधार आंदोलनों को किससे प्रसिद्धि मिली?

Options :

1. ✓ हिंदी भाषा से
2. \* नेताओं से
3. \* लोगों से
4. \* देश से

Question Number : 197 Question Id : 54592733933 Question Type : MCQ Option Shuffling : Yes

Correct Marks : 1 Wrong Marks : 0.25

हिंदी को राष्ट्रभाषा बनाने का संकल्प कब लिया गया?

Options :

1. \* स्वाधीनता के समय
2. \* देश के बंटवारे के समय

3. ✓ आज्ञादी से पहले

4. \* आज्ञादी के बाद

Question Number : 198 Question Id : 54592733934 Question Type : MCQ Option Shuffling : Yes

Correct Marks : 1 Wrong Marks : 0.25

हिंदी को राष्ट्रभाषा और देवनागरी को राष्ट्रीय लिपि घोषित क्यों किया गया?

Options :

1. \* देश के विभाजन के कारण

2. \* राष्ट्र के लिए

3. \* लोगों के विकास के लिए

4. ✓ भाषा के उत्थान के लिए

Question Number : 199 Question Id : 54592733935 Question Type : MCQ Option Shuffling : Yes

Correct Marks : 1 Wrong Marks : 0.25

इनमें से कौन - सा संबल का पर्यायवाची नहीं है?

Options :

1. \* ताकत

2. ✓ बेसहारा

3. \* सहारा

4. \* सहायक वस्तु

Question Number : 200 Question Id : 54592733936 Question Type : MCQ Option Shuffling : Yes

Correct Marks : 1 Wrong Marks : 0.25

इस अनुच्छेद का कोई उपयुक्त शीर्षक-

Options :

1. \* स्वाधीनता

2. \* स्वराज्य की भावना

3. ✓ हिंदी भाषा का उत्थान

4. \* देश का विभाजन

Question Id : 54592733931 Question Type : COMPREHENSION Sub Question Shuffling Allowed : Yes Group Comprehension Questions : No

Question Numbers : (196 to 200)

Question Label : Comprehension

इस गद्यांश को ध्यानपूर्वक पढ़ें और चार विकल्पों में से प्रत्येक प्रश्न का सर्वोत्तम उत्तर चुनें।

उन्नीसवीं शताब्दी के अंत में जो अनेक सुधार आंदोलन चले उन्हें भी हिंदी से प्रचार मिला। बीसवीं शताब्दी में राष्ट्रीय मुक्ति आंदोलन के नेता चाहे गाँधी रहे या सुभाष ,तिलक रहे या लाला लाजपतराय-सभी ने एक मत से हिंदी को ही राष्ट्रीय एकता, सांस्कृतिक जागरण और स्वराज्य की भावना का संबल बनाया, इसलिए सन् १९३० ई में ही भारतीय राष्ट्रीय कांग्रेस ने हिंदी को राष्ट्रभाषा बनाने का संकल्प ले लिया था। १९४७ में भारत के स्वतंत्र होने पर नए संविधान द्वारा इस भाषा के उत्थान के लिए हिंदी को राष्ट्रभाषा और देवनागरी को राष्ट्रीय लिपि घोषित किया गया, परंतु इसी स्वाधीनता के साथ देश के विभाजन का भी वज्रपात हुआ। मुस्लिम आबादी वाले कुछ क्षेत्र पाकिस्तान के नाम से अलग कर दिए गए और उसकी भाषा उर्दू को इस विभाजन का आधार बनाया गया। इस तरह हिंदी-उर्दू का जो विवाद केवल अखबारों तक सीमित था उसे स्वीकृति मिल गई। इधर, १९५० ई, में नया संविधान लागू करते समय पंद्रह वर्ष तक अंग्रेज़ी में सरकारी काम चलाने का विचार किया गया, क्योंकि सौ-डेढ़ सौ वर्ष से यहीं राजभाषा बनी हुई थी।

Sub questions

Question Number : 196 Question Id : 54592733932 Question Type : MCQ Option Shuffling : Yes

Correct Marks : 1 Wrong Marks : 0.25

उन्नीसवीं शताब्दी के अंत में सुधार आंदोलनों को किससे प्रसिद्धि मिली?

Options :

1. ✓ हिंदी भाषा से
2. \* नेताओं से

3. \* लोगों से

4. \* देश से

Question Number : 197 Question Id : 54592733933 Question Type : MCQ Option Shuffling : Yes

Correct Marks : 1 Wrong Marks : 0.25

हिंदी को राष्ट्रभाषा बनाने का संकल्प कब लिया गया?

Options :

1. \* स्वाधीनता के समय

2. \* देश के बंटवारे के समय

3. ✓ आज़ादी से पहले

4. \* आज़ादी के बाद

Question Number : 198 Question Id : 54592733934 Question Type : MCQ Option Shuffling : Yes

Correct Marks : 1 Wrong Marks : 0.25

हिंदी को राष्ट्रभाषा और देवनागरी को राष्ट्रीय लिपि घोषित क्यों किया गया?

Options :

1. \* देश के विभाजन के कारण

2. \* राष्ट्र के लिए

3. \* लोगों के विकास के लिए

4. ✓ भाषा के उत्थान के लिए

Question Number : 199 Question Id : 54592733935 Question Type : MCQ Option Shuffling : Yes

Correct Marks : 1 Wrong Marks : 0.25

इनमें से कौन - सा संबल का पर्यायवाची नहीं है?

Options :

1. \* ताकत

2. ✓ बेसहारा

3. \* सहारा

## 4. \* सहायक वस्तु

Question Number : 200 Question Id : 54592733936 Question Type : MCQ Option Shuffling : Yes

Correct Marks : 1 Wrong Marks : 0.25

इस अनुच्छेद का कोई उपयुक्त शीर्षक-

Options :

1. \* स्वाधीनता
2. \* स्वराज्य की भावना
3. ✓ हिंदी भाषा का उत्थान
4. \* देश का विभाजन