

Education Consultant India Ltd.

Notations :

1.Options shown in **green** color and with ✓ icon are correct.

2.Options shown in **red** color and with ✖ icon are incorrect.

| | |
|---|--|
| Question Paper Name: | Lower Division Clerk 16th September 2019 Shift 2 |
| Subject Name: | LOWER DIVISION CLERK |
| Creation Date: | 2019-09-16 15:57:37 |
| Duration: | 120 |
| Total Marks: | 200 |
| Display Marks: | Yes |
| Share Answer Key With Delivery Engine: | No |
| Actual Answer Key: | Yes |
| Calculator: | None |
| Magnifying Glass Required?: | No |
| Ruler Required?: | No |
| Eraser Required?: | No |
| Scratch Pad Required?: | No |
| Rough Sketch/Notepad Required?: | No |
| Protractor Required?: | No |
| Show Watermark on Console?: | Yes |
| Highlighter: | No |
| Auto Save on Console?: | No |

Mental Ability1

| | |
|--|------------|
| Group Number : | 1 |
| Group Id : | 5459271721 |
| Group Maximum Duration : | 0 |
| Group Minimum Duration : | 0 |
| Show Attended Group? : | No |
| Edit Attended Group? : | No |
| Break time: | 0 |
| Group Marks: | 20 |
| Is this Group for Examiner?: | No |
| Revisit allowed for group Instructions? : | Yes |
| Maximum Instruction Time: | 0 |
| Minimum Instruction Time: | 0 |

Mental Ability1

| | |
|-------------------------|------------|
| Section Id : | 5459271721 |
| Section Number : | 1 |

| | |
|--------------------------------------|-----------|
| Section type : | Online |
| Mandatory or Optional: | Mandatory |
| Number of Questions: | 20 |
| Number of Questions to be attempted: | 20 |
| Section Marks: | 20 |

| | |
|------------------------------|------------|
| Sub-Section Number: | 1 |
| Sub-Section Id: | 5459272065 |
| Question Shuffling Allowed : | Yes |

Question Number : 1 Question Id : 54592734745 Question Type : MCQ Option Shuffling : Yes
Correct Marks : 1 Wrong Marks : 0.25

Find the missing term in the following letter series:

GL, DI, AF, _____

Options :

1. ✓ XC
2. ✗ PB
3. ✗ SB
4. ✗ PR

Question Number : 1 Question Id : 54592734745 Question Type : MCQ Option Shuffling : Yes
Correct Marks : 1 Wrong Marks : 0.25

निम्नलिखित अक्षर श्रृंखला में लुप्त पद ज्ञात करें:

GL, DI, AF, _____

Options :

1. ✓ XC
2. ✗ PB
3. ✗ SB
4. ✗ PR

Question Number : 2 Question Id : 54592734746 Question Type : MCQ Option Shuffling : Yes
Correct Marks : 1 Wrong Marks : 0.25

Find the missing term in the following series:

5H10, 12K24, 26N52, _____

Options :

1. ✓ 54Q108
2. ✗ 54Q102
3. ✗ 54S108
4. ✗ 54R112

Question Number : 2 Question Id : 54592734746 Question Type : MCQ Option Shuffling : Yes
Correct Marks : 1 Wrong Marks : 0.25

निम्नलिखित अक्षर श्रृंखला में लुप्त पद ज्ञात करें:

5H10, 12K24, 26N52, _____

Options :

1. ✓ 54Q108
2. ✗ 54Q102
3. ✗ 54S108
4. ✗ 54R112

Question Number : 3 Question Id : 54592734747 Question Type : MCQ Option Shuffling : Yes
Correct Marks : 1 Wrong Marks : 0.25

Find the wrong term in the following series:

SVY, PSV, MPS, JMP, IJM

Options :

1. ✗ PSV
2. ✗ MPR
3. ✗ JMP

4. ✓ IJM

Question Number : 3 Question Id : 54592734747 Question Type : MCQ Option Shuffling : Yes
Correct Marks : 1 Wrong Marks : 0.25

निम्नलिखित श्रृंखला में गलत पद ज्ञात करें:

SVY, PSV, MPS, JMP, IJM

Options :

1. ✗ PSV
2. ✗ MPR
3. ✗ JMP
4. ✓ IJM

Question Number : 4 Question Id : 54592734748 Question Type : MCQ Option Shuffling : Yes
Correct Marks : 1 Wrong Marks : 0.25

Out of the given options, three are similar in a certain manner. However, one option is NOT like the other three. Select the option which is different from the rest.

Options :

1. ✗ Cricket
2. ✗ Baseball
3. ✗ Softball
4. ✓ Football

Question Number : 4 Question Id : 54592734748 Question Type : MCQ Option Shuffling : Yes
Correct Marks : 1 Wrong Marks : 0.25

दिए गए विकल्पों में से, तीन एक निश्चित तरीके से समान हैं। हालाँकि, एक विकल्प अन्य तीन की तरह नहीं है। उस विकल्प का चयन करें जो बाकी से अलग है।

Options :

1. ✖ क्रिकेट
2. ✖ बेसबॉल
3. ✖ सॉफ्टबॉल
4. ✔ फुटबॉल

Question Number : 5 Question Id : 54592734749 Question Type : MCQ Option Shuffling : Yes
Correct Marks : 1 Wrong Marks : 0.25

Out of the given options, three are similar in a certain manner. However, one option is NOT like the other three. Select the option which is different from the rest.

Options :

1. ✖ ROU
2. ✖ JGM
3. ✖ VSY
4. ✔ AWE

Question Number : 5 Question Id : 54592734749 Question Type : MCQ Option Shuffling : Yes
Correct Marks : 1 Wrong Marks : 0.25

दिए गए विकल्पों में से, तीन एक निश्चित तरीके से समान हैं। हालाँकि, एक विकल्प अन्य तीन की तरह नहीं है। उस विकल्प का चयन करें जो बाकी से अलग है।

Options :

1. ✖ ROU
2. ✖ JGM
3. ✖ VSY
4. ✔ AWE

Question Number : 6 Question Id : 54592734750 Question Type : MCQ Option Shuffling : Yes
Correct Marks : 1 Wrong Marks : 0.25

In the given options 3 pair of words are similarly related and one pair is differently related. Find the pair which is differently related.

Options :

1. ✖ Blacksmith : Metal
2. ✔ Composer : Movies
3. ✖ Dramatist : Play
4. ✖ Professor : Education

Question Number : 6 Question Id : 54592734750 Question Type : MCQ Option Shuffling : Yes

Correct Marks : 1 Wrong Marks : 0.25

दिए गए विकल्पों में 3 शब्दों के जोड़े एकसमान संबंधित हैं और एक जोड़ी अलग तरह से संबंधित है। उस जोड़ी को ज्ञात करें जो अलग तरह से संबंधित है।

Options :

1. ✖ लोहार : धातु
2. ✔ संगीतकार : फिल्में
3. ✖ नाटककार : नाटक
4. ✖ प्राध्यापक : शिक्षा

Question Number : 7 Question Id : 54592734751 Question Type : MCQ Option Shuffling : Yes

Correct Marks : 1 Wrong Marks : 0.25

Select the option that is related to the third term on the same basis as the second term is related to the first term.

Day : Night :: Dawn : ?

Options :

1. ✖ Morning
2. ✖ Sunset
3. ✔ Dusk

4. * Sunrise

Question Number : 7 Question Id : 54592734751 Question Type : MCQ Option Shuffling : Yes
Correct Marks : 1 Wrong Marks : 0.25

उस विकल्प का चयन करें जो तीसरे पद से उसी प्रकार से संबंधित है जिस प्रकार से पहला पद दूसरे पद से संबंधित है।

दिन : रात :: भोर : ?

Options :

1. * सुबह
2. * सूर्यास्त
3. ✓ संध्या
4. * सूर्योदय

Question Number : 8 Question Id : 54592734752 Question Type : MCQ Option Shuffling : Yes
Correct Marks : 1 Wrong Marks : 0.25

Select the option that is related to the third term on the same basis as the second term is related to the first term.

EHK : ILO :: DQW : ?

Options :

1. * GVB
2. ✓ HUA
3. * IVA
4. * HVB

Question Number : 8 Question Id : 54592734752 Question Type : MCQ Option Shuffling : Yes
Correct Marks : 1 Wrong Marks : 0.25

उस विकल्प का चयन करें जो तीसरे पद से उसी प्रकार से संबंधित है जिस प्रकार से पहला पद दूसरे पद से संबंधित है।

EHK : ILO :: DQW : ?

Options :

1. ✖ GVB

2. ✔ HUA

3. ✖ IVA

4. ✖ HVB

Question Number : 9 Question Id : 54592734753 Question Type : MCQ Option Shuffling : Yes

Correct Marks : 1 Wrong Marks : 0.25

Select the pair that is related on the same basis to the pair given in the question.

FMS : JIW :: ?

Options :

1. ✖ AMP : FJX

2. ✖ CMT : GKY

3. ✖ DKM : ZBA

4. ✔ BNS : FJW

Question Number : 9 Question Id : 54592734753 Question Type : MCQ Option Shuffling : Yes

Correct Marks : 1 Wrong Marks : 0.25

उस जोड़ी का चयन करें जो उसी आधार पर संबंधित हों, जिस आधार पर सवाल में दी गई जोड़ी संबंधित हैं।

FMS : JIW :: ?

Options :

1. ✖ AMP : FJX
2. ✖ CMT : GKY
3. ✖ DKM : ZBA
4. ✔ BNS : FJW

Question Number : 10 Question Id : 54592734754 Question Type : MCQ Option Shuffling : Yes
Correct Marks : 1 Wrong Marks : 0.25

In a certain code language SUN = 6, MOON = 8, VENUS = 10, then what will be the value of JUPITER?

Options :

1. ✖ 10
2. ✖ 12
3. ✔ 14
4. ✖ 16

Question Number : 10 Question Id : 54592734754 Question Type : MCQ Option Shuffling : Yes
Correct Marks : 1 Wrong Marks : 0.25

एक निश्चित कोड भाषा में, SUN = 6, MOON = 8, VENUS = 10 है, तो JUPITER का मूल्य क्या होगा?

Options :

1. ✖ 10
2. ✖ 12
3. ✔ 14
4. ✖ 16

Question Number : 11 Question Id : 54592734755 Question Type : MCQ Option Shuffling : Yes
Correct Marks : 1 Wrong Marks : 0.25

If toe is called finger, finger is called thumb, thumb is called ankle, ankle is called foot, foot is called knee, then what will an illiterate man use to mark his signatures?

Options :

1. ✓ ankle
2. ✗ foot
3. ✗ knee
4. ✗ thumb

Question Number : 11 Question Id : 54592734755 Question Type : MCQ Option Shuffling : Yes

Correct Marks : 1 Wrong Marks : 0.25

यदि पैर के अंगूठे को अंगुली कहा जाए, अंगुली को अंगूठा कहा जाए, अंगूठे को टखना कहा जाए, टखने को पैर कहा जाए, पैर को घुटना कहा जाए, तो एक अनपढ़ आदमी अपना हस्ताक्षर किससे करेगा?

Options :

1. ✓ टखना
2. ✗ पैर
3. ✗ घुटना
4. ✗ अंगूठा

Question Number : 12 Question Id : 54592734756 Question Type : MCQ Option Shuffling : Yes

Correct Marks : 1 Wrong Marks : 0.25

In a certain code language,

'ju ru hu gu' is the code for 'driving is not easy'

'nu su ju du' is the code for 'rough and hard driving'

'au ru tu pu' is the code for 'looks easy but dangerous'

'ju nu au du' is the code for 'is rough hard dangerous'

What is the code for 'rough but nice'?

Note: For this question, discrepancy is found in question/answer. So, this question is ignored for all candidates.

Options :

1. nu tu au
2. nu tu pu
3. nu pu au

4. pu bu nu

Question Number : 12 Question Id : 54592734756 Question Type : MCQ Option Shuffling : Yes
Correct Marks : 1 Wrong Marks : 0.25

एक निश्चित कोड भाषा में,

'ju ru hu gu' का कोड है 'driving is not easy'

'nu su ju du' का कोड है 'rough and hard driving'

'au ru tu pu' का कोड है 'looks easy but dangerous'

'ju nu au du' का कोड है 'is rough hard dangerous'

'rough but nice' का कोड क्या है?

Note: For this question, discrepancy is found in question/answer. So, this question is ignored for all candidates.

Options :

1. nu tu au
2. nu tu pu
3. nu pu au
4. pu bu nu

Question Number : 13 Question Id : 54592734757 Question Type : MCQ Option Shuffling : Yes
Correct Marks : 1 Wrong Marks : 0.25

Four friends — R, S, T and U are sitting around a square-shaped table. R is facing South and has T to his immediate right. U is facing West. Who among these friends is facing East?

Options :

1. * R
2. * S
3. ✓ T
4. * U

Question Number : 13 Question Id : 54592734757 Question Type : MCQ Option Shuffling : Yes

Correct Marks : 1 Wrong Marks : 0.25

चार मित्र - R, S, T और U एक चौकोर आकार की मेज के चारों ओर बैठे हैं। R का मुंह दक्षिण दिशा की ओर है और उसके एकदम बगल में दाएं तरफ T बैठा है। U का मुंह पश्चिम दिशा की ओर है। इन दोस्तों में से किस का मुंह पूर्व दिशा की ओर है?

Options :

1. ✖ R

2. ✖ S

3. ✔ T

4. ✖ U

Question Number : 14 Question Id : 54592734758 Question Type : MCQ Option Shuffling : Yes

Correct Marks : 1 Wrong Marks : 0.25

Analyse the information given below and answer the question that follows.

Raju is five years older than Bhola.

Lalu is younger than Veeru by two years.

Chintu is older than Raju by one year.

Veeru is six years younger than Raju.

Who among the following is definitely the youngest among the given friends?

Options :

1. ✔ Lалу

2. ✖ Veeru

3. ✖ Bhola

4. ✖ Raju

Question Number : 14 Question Id : 54592734758 Question Type : MCQ Option Shuffling : Yes

Correct Marks : 1 Wrong Marks : 0.25

नीचे दी गई जानकारी का विश्लेषण करें और उस प्रश्न का उत्तर दें जो निम्न प्रकार है।

राजू, भोला से पांच साल बड़ा है।

लालू, वीरू से दो साल छोटा है।

चिट्टू, राजू से एक साल बड़ा है।

वीरू, राजू से छह साल छोटा है।

निम्नलिखित में से कौन निश्चित रूप से दिए गए दोस्तों में सबसे छोटा है?

Options :

1. ✓ लालू
2. ✗ वीरू
3. ✗ भोला
4. ✗ राजू

Question Number : 15 Question Id : 54592734759 Question Type : MCQ Option Shuffling : Yes
Correct Marks : 1 Wrong Marks : 0.25

In the given options 3 pair of words are similarly related and one pair is differently related. Find the pair which is differently related.

Options :

1. ✗ Horse - Stallion
2. ✗ Deer - Buck
3. ✗ Goose - Gander
4. ✓ Swan - Cygnet

Question Number : 15 Question Id : 54592734759 Question Type : MCQ Option Shuffling : Yes
Correct Marks : 1 Wrong Marks : 0.25

दिए गए विकल्पों में शब्दों की 3 जोड़ी समान रूप से सम्बंधित हैं, और एक जोड़ी अलग तरह से संबंधित है। उस जोड़ी को ज्ञात करें जो अलग तरह से संबंधित है।

Options :

1. * घोड़ा - स्टैलियन
2. * हिरण - बक
3. * बत्तख - हंस
4. ✓ हंस - सिग्नेट

Question Number : 16 Question Id : 54592734760 Question Type : MCQ Option Shuffling : Yes

Correct Marks : 1 Wrong Marks : 0.25

Select the option that arranges the words given below in the most appropriate and meaningful sequence.

1. High School
2. University
3. College
4. Kindergarten
5. Primary School

Options :

1. * 3-2-1-5-4
2. * 5-4-2-3-1
3. ✓ 4-5-1-3-2
4. * 5-1-3-4-2

Question Number : 16 Question Id : 54592734760 Question Type : MCQ Option Shuffling : Yes

Correct Marks : 1 Wrong Marks : 0.25

नीचे दिए गए शब्दों को सबसे उपयुक्त और सार्थक अनुक्रम में व्यवस्थित करने वाले विकल्प का चयन करें।

1. High School
2. University
3. College
4. Kindergarten
5. Primary School

Options :

1. ✖ 3-2-1-5-4
2. ✖ 5-4-2-3-1
3. ✔ 4-5-1-3-2
4. ✖ 5-1-3-4-2

Question Number : 17 Question Id : 54592734761 Question Type : MCQ Option Shuffling : Yes
Correct Marks : 1 Wrong Marks : 0.25

Analyse the given information and answer the question that follows.

The criteria for allocating government accommodation have been given as under:

The candidate must:

1. Be a Class I officer with the Government of India.
2. Have completed 20 years of service in the current department (including deputation).
3. Should not have a living spouse who is a beneficiary of staff accommodation under the same or similar service benefits or provisions.

The following exceptions apply if a candidate has:

- A. Served more than 15 years but less than 20 years in the current department but is an ex-defence personnel with more than 5 years of active service. Such a candidate is to be referred to the Secretary, Personnel.
- B. Fulfilled all other criteria except 3 above; but the spouse of the concerned officer is located more than 100 km away. Such a candidate will be referred to the Under Secretary, Government Accommodations.

Ashish Prasad is a Class I officer with more than 23 years of service in the Finance Ministry. His spouse is the District Medical Officer of Baghpat district which is 135 km from Mr. Prasad's office. Mrs. Prasad has been allocated a government bungalow and car.

What decision should be taken about this applicant?

Options :

1. ✖ The applicant should be allotted the requested accommodation.
2. ✖ The applicant's request should be summarily rejected.
3. ✖ The applicant should be referred to the Secretary, Personnel.
4. ✔ The applicant should be referred to the Under Secretary, Government Accommodations.

Question Number : 17 Question Id : 54592734761 Question Type : MCQ Option Shuffling : Yes
Correct Marks : 1 Wrong Marks : 0.25

दी गई जानकारी का विश्लेषण करें और उस प्रश्न का उत्तर दें जो निम्न प्रकार है।

सरकारी आवास आवंटित करने के मापदंड निम्नानुसार हैं:

उम्मीदवार के लिए पूर्व-आवश्यकताएं:

1. भारत सरकार के साथ श्रेणी I अधिकारी हो।
2. वर्तमान विभाग (प्रतिनियुक्ति सहित) में 20 साल की सेवा पूरी कर ली है।
3. एक जीवित जीवनसाथी नहीं होना चाहिए जो समान या समान सेवा लाभ या प्रावधानों के तहत कर्मचारियों के आवास का लाभार्थी हो।

निम्नलिखित अपवाद लागू होते हैं यदि उम्मीदवार के पास:

- A. वर्तमान विभाग में 15 वर्ष से अधिक किंतु 20 वर्ष से कम की सेवा दी गई है लेकिन 5 वर्ष से अधिक सक्रिय सेवा के साथ एक पूर्व-रक्षा कर्मी है। ऐसे उम्मीदवार को सचिव, कार्मिक के पास भेजा जाना है।
- B. उपरोक्त 3 को छोड़कर अन्य सभी मानदंडों को पूरा किया; लेकिन संबंधित अधिकारी का जीवनसाथी 100 km से अधिक दूर स्थित है। ऐसे अभ्यर्थी को अवर सचिव, सरकारी आवासों में भेजा जाएगा।

आशीष प्रसाद श्रेणी I का अधिकारी हैं जिसने वित्त मंत्रालय में 23 से अधिक वर्षों की सेवा की है। उसका जीवनसाथी बागपत जिले का जिला चिकित्सा अधिकारी है जो श्री प्रसाद के कार्यालय से 135 km दूर है। श्रीमती प्रसाद को एक सरकारी बंगला और कार आवंटित किया गया है।

इस आवेदक के बारे में क्या निर्णय लिया जाना चाहिए?

Options :

1. * आवेदक को अनुरोधित आवास आवंटित किया जाना चाहिए।
2. * आवेदक के अनुरोध को संक्षिप्त तौर पर अस्वीकार कर दिया जाना चाहिए।
3. * आवेदक को सचिव, कार्मिक के पास भेजा जाना चाहिए।
4. ✓ आवेदक को अवर सचिव, सरकारी आवासों में भेजा जाना चाहिए।

Question Number : 18 Question Id : 54592734762 Question Type : MCQ Option Shuffling : Yes

Correct Marks : 1 Wrong Marks : 0.25

In this question, two statements have been given followed by two conclusions numbered I and II. Assuming that all information in the statement is true, analyse the two conclusions together and determine whether any of them logically and definitely follow(s) from the information given in the statement.

Statements:

- I. All pens are erasers.
- II. Some erasers are sharpeners.

Conclusions:

- I. Some erasers are pens.
- II. Some sharpeners are pens.

Options :

1. ✓ Only conclusion I follows
2. * Only conclusion II follows
3. * Both conclusion I and II follows
4. * Neither conclusion I nor II follows

Question Number : 18 Question Id : 54592734762 Question Type : MCQ Option Shuffling : Yes

Correct Marks : 1 Wrong Marks : 0.25

इस प्रश्न में, दो कथन I और II के दो निष्कर्ष दिए गए हैं। यह मानते हुए कि कथन में सभी जानकारी सत्य हैं, दो निष्कर्षों का एक साथ विश्लेषण करें और निर्धारित करें कि कथन में दी गई जानकारी में से कोई भी तार्किक रूप से और निश्चित रूप से अनुसरण करता है।

कथन:

- I. सभी पेन रबड़ हैं।
- II. कुछ रबड़ शार्पनर हैं।

निष्कर्ष:

- I. कुछ रबड़ पेन हैं।
- II. कुछ शार्पनर पेन हैं।

Options :

1. ✓ केवल निष्कर्ष I अनुसरण करता है
2. ✖ केवल निष्कर्ष II अनुसरण करता है
3. ✖ दोनों निष्कर्ष I और II अनुसरण करते हैं
4. ✖ न तो I और न ही II अनुसरण करता है

Question Number : 19 Question Id : 54592734763 Question Type : MCQ Option Shuffling : Yes
Correct Marks : 1 Wrong Marks : 0.25

In this question, a statement has been given, followed by two assumptions numbered I and II. Analyse the two assumptions together and determine which of them is/are implicit in the statement.

Statements:

I. "To stop train, pull chain. Penalty for improper use Rs. 2,000".

Assumptions:

I. Travellers may need to stop the train in case of an emergency.

II. Some travellers may misuse the facility to board or deboard the train at unauthorised stops; or they may pull the chain just for fun.

Options :

1. ✖ Only assumption I is implicit.
2. ✖ Only assumption II is implicit.
3. ✖ Neither assumption I nor assumption II is implicit.
4. ✔ Both the assumptions are implicit.

Question Number : 19 Question Id : 54592734763 Question Type : MCQ Option Shuffling : Yes

Correct Marks : 1 Wrong Marks : 0.25

इस प्रश्न में, एक कथन दिया गया है, जिसके बाद I और II की दो धारणाएँ हैं। एक साथ दोनों धारणाओं का विश्लेषण करें और निर्धारित करें कि उनमें से कौन सा/से कथन में निहित है।

कथन:

I. "रेलगाड़ी को रोकने के लिए, जंजीर खींचो। अनुचित उपयोग के लिए जुर्माना 2,000 रुपए है" ।

धारणाएँ:

I. यात्रियों को आपातकालीन स्थिति में रेलगाड़ी को रोकने की आवश्यकता हो सकती है।

II. कुछ यात्री अनधिकृत ठहराव पर रेलगाड़ी में चढ़ने या उतरने की सुविधा का दुरुपयोग कर सकते हैं; या वे सिर्फ मनोरंजन के लिए जंजीर खींच सकते हैं।

Options :

1. * केवल धारणा I निहित है।
2. * केवल धारणा II निहित है।
3. * न तो धारणा I और न ही धारणा II निहित है।
4. ✓ दोनों धारणाएं निहित हैं।

Question Number : 20 Question Id : 54592734764 Question Type : MCQ Option Shuffling : Yes

Correct Marks : 1 Wrong Marks : 0.25

Complete the following number series:

25.62, 26.90, 28.18, 29.46, _____

Options :

1. * 32.52

2. ✓ 30.74

3. ✘ 31.25

4. ✘ 32.28

Question Number : 20 Question Id : 54592734764 Question Type : MCQ Option Shuffling : Yes

Correct Marks : 1 Wrong Marks : 0.25

निम्नलिखित संख्या श्रृंखला को पूरा करें:

25.62, 26.90, 28.18, 29.46, _____

Options :

1. ✘ 32.52

2. ✓ 30.74

3. ✘ 31.25

4. ✘ 32.28

Mental Ability2

| | |
|---|------------|
| Group Number : | 2 |
| Group Id : | 5459271722 |
| Group Maximum Duration : | 0 |
| Group Minimum Duration : | 0 |
| Show Attended Group? : | No |
| Edit Attended Group? : | No |
| Break time: | 0 |
| Group Marks: | 20 |
| Is this Group for Examiner?: | No |
| Revisit allowed for group Instructions? : | Yes |
| Maximum Instruction Time: | 0 |
| Minimum Instruction Time: | 0 |

Mental Ability2

| | |
|------------------------|------------|
| Section Id : | 5459271722 |
| Section Number : | 1 |
| Section type : | Online |
| Mandatory or Optional: | Mandatory |
| Number of Questions: | 20 |

Number of Questions to be attempted: 20
Section Marks: 20

Sub-Section Number: 1
Sub-Section Id: 5459272066
Question Shuffling Allowed : Yes

Question Number : 21 Question Id : 54592734765 Question Type : MCQ Option Shuffling : Yes
Correct Marks : 1 Wrong Marks : 0.25

Find the wrong number in the following number series:

16, 32, 64, 128, 254

Options :

1. ✖ 32

2. ✖ 64

3. ✖ 128

4. ✔ 254

Question Number : 21 Question Id : 54592734765 Question Type : MCQ Option Shuffling : Yes
Correct Marks : 1 Wrong Marks : 0.25

निम्नलिखित संख्या श्रृंखला में से गलत संख्या ज्ञात करें:

16, 32, 64, 128, 254

Options :

1. ✖ 32

2. ✖ 64

3. ✖ 128

4. ✔ 254

Question Number : 22 Question Id : 54592734766 Question Type : MCQ Option Shuffling : Yes
Correct Marks : 1 Wrong Marks : 0.25

Select the option that is related to the third number on the same basis as the second number is related to the first number.

$$5.6 : 5/28 :: 2.5 : ?$$

Options :

1. ✖ $3/14$

2. ✔ $2/5$

3. ✖ $4/17$

4. ✖ $2/17$

Question Number : 22 Question Id : 54592734766 Question Type : MCQ Option Shuffling : Yes

Correct Marks : 1 Wrong Marks : 0.25

उस विकल्प का चयन करें जो तीसरी संख्या से उसी प्रकार से संबंधित है जिस प्रकार से पहली संख्या दूसरी संख्या से संबंधित है।

$$5.6 : 5/28 :: 2.5 : ?$$

Options :

1. ✖ $3/14$

2. ✔ $2/5$

3. ✖ $4/17$

4. ✖ $2/17$

Question Number : 23 Question Id : 54592734767 Question Type : MCQ Option Shuffling : Yes

Correct Marks : 1 Wrong Marks : 0.25

Select the option that is related to the third number on the same basis as the second number is related to the first number.

$$1.6 : 5/8 :: 2.2 : ?$$

Options :

1. ✖ $7/18$

2. ✖ $6/11$

3. ✖ $4/13$

4. ✔ $5/11$

Question Number : 23 Question Id : 54592734767 Question Type : MCQ Option Shuffling : Yes

Correct Marks : 1 Wrong Marks : 0.25

उस विकल्प का चयन करें जो तीसरी संख्या से उसी प्रकार से संबंधित है जिस प्रकार से पहली संख्या दूसरी संख्या से संबंधित है।

$$1.6 : 5/8 :: 2.2 : ?$$

Options :

1. ✖ $7/18$

2. ✖ $6/11$

3. ✖ $4/13$

4. ✔ $5/11$

Question Number : 24 Question Id : 54592734768 Question Type : MCQ Option Shuffling : Yes

Correct Marks : 1 Wrong Marks : 0.25

Find the missing number in the following number series.

$$56, 72, \underline{\quad}, 110, 132, 156$$

Options :

1. ✔ 90

2. ✖ 92

3. ✖ 98

4. ✖ 88

Question Number : 24 Question Id : 54592734768 Question Type : MCQ Option Shuffling : Yes

Correct Marks : 1 Wrong Marks : 0.25

निम्नलिखित संख्या श्रृंखला में लुप्त संख्या को ज्ञात करें।

56, 72, _____, 110, 132, 156

Options :

1. ✔ 90

2. ✖ 92

3. ✖ 98

4. ✖ 88

Question Number : 25 Question Id : 54592734769 Question Type : MCQ Option Shuffling : Yes

Correct Marks : 1 Wrong Marks : 0.25

Find the missing number in the following number series.

8, 9, 64, _____, 216, 49

Options :

1. ✔ 25

2. ✖ 36

3. ✖ 343

4. ✖ 16

Question Number : 25 Question Id : 54592734769 Question Type : MCQ Option Shuffling : Yes

Correct Marks : 1 Wrong Marks : 0.25

निम्नलिखित संख्या श्रृंखला में लुप्त संख्या को ज्ञात करें।

8, 9, 64, _____, 216, 49

Options :

1. ✓ 25

2. ✗ 36

3. ✗ 343

4. ✗ 16

Question Number : 26 Question Id : 54592734770 Question Type : MCQ Option Shuffling : Yes

Correct Marks : 1 Wrong Marks : 0.25

If $(x + 9) < (y + 13)$, then which among the following is true?

Options :

1. ✗ $(x + y) > 4$

2. ✗ $(x - y) > 22$

3. ✗ $(x + y) < 22$

4. ✓ $(x - y) < 4$

Question Number : 26 Question Id : 54592734770 Question Type : MCQ Option Shuffling : Yes

Correct Marks : 1 Wrong Marks : 0.25

यदि $(x + 9) < (y + 13)$ है, तो निम्नलिखित में से कौन सा सत्य है?

Options :

1. ✗ $(x + y) > 4$

2. ✗ $(x - y) > 22$

3. ✗ $(x + y) < 22$

4. ✓ $(x - y) < 4$

Question Number : 27 Question Id : 54592734771 Question Type : MCQ Option Shuffling : Yes

Correct Marks : 1 Wrong Marks : 0.25

Find the number which when added to itself 14 times, gives 120.

Options :

1. ✓ 8

2. ✗ 9

3. ✗ 10

4. ✗ 12

Question Number : 27 Question Id : 54592734771 Question Type : MCQ Option Shuffling : Yes

Correct Marks : 1 Wrong Marks : 0.25

उस संख्या को ज्ञात करें, जो 14 बार खुद से जुड़ने पर 120 अंक देती है।

Options :

1. ✓ 8

2. ✗ 9

3. ✗ 10

4. ✗ 12

Question Number : 28 Question Id : 54592734772 Question Type : MCQ Option Shuffling : Yes

Correct Marks : 1 Wrong Marks : 0.25

A train starts from city A. The number of women in the train is one third of the number of men. In city B, 10 men leave the train and 6 women enter. Now number of men and women is equal. In the beginning, how many passengers entered the train?

Options :

1. ✓ 32

2. ✗ 24

3. ✗ 40

4. ✗ 36

Question Number : 28 Question Id : 54592734772 Question Type : MCQ Option Shuffling : Yes

Correct Marks : 1 Wrong Marks : 0.25

शहर A से एक रेलगाड़ी शुरू होती है। रेलगाड़ी में महिलाओं की संख्या पुरुषों की संख्या से एक तिहाई है। शहर B में, 10 पुरुष रेलगाड़ी से उतरते हैं और 6 महिलाएँ प्रवेश करती हैं। अब पुरुषों और महिलाओं की संख्या बराबर है। शुरुआत में, कितने यात्रियों ने रेलगाड़ी में प्रवेश किया?

Options :

1. ✓ 32

2. ✗ 24

3. ✗ 40

4. ✗ 36

Question Number : 29 Question Id : 54592734773 Question Type : MCQ Option Shuffling : Yes

Correct Marks : 1 Wrong Marks : 0.25

Which two numbers should be interchanged to make the below equation mathematically correct?

$$15 \times 3 - 172 + 10 \div 2 = 121$$

Options :

1. ✗ 3, 10

2. ✗ 172, 2

3. ✗ 10, 2

4. ✓ 172, 10

Question Number : 29 Question Id : 54592734773 Question Type : MCQ Option Shuffling : Yes

Correct Marks : 1 Wrong Marks : 0.25

नीचे दिए गए समीकरण को गणितीय रूप से सही बनाने के लिए किन दो संख्याओं को परस्पर स्थानांतरित किया जाना चाहिए?

$$15 \times 3 - 172 + 10 \div 2 = 121$$

Options :

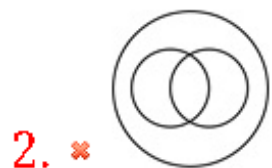
1. ✖ 3, 10
2. ✖ 172, 2
3. ✖ 10, 2
4. ✔ 172, 10

Question Number : 30 Question Id : 54592734774 Question Type : MCQ Option Shuffling : Yes

Correct Marks : 1 Wrong Marks : 0.25

Which of the following Venn diagrams best represents the relationship between buses, boats and vehicles?

Options :

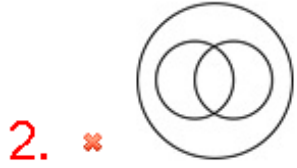
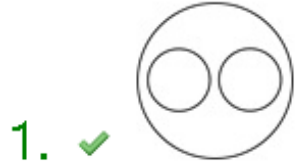


Question Number : 30 Question Id : 54592734774 Question Type : MCQ Option Shuffling : Yes

Correct Marks : 1 Wrong Marks : 0.25

निम्नलिखित में से कौन सा वेन आरेख बसों, नावों और वाहनों के बीच के संबंध को सबसे अच्छा दर्शाता है?

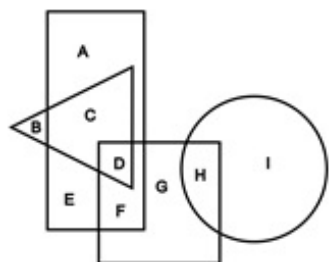
Options :



Question Number : 31 Question Id : 54592734775 Question Type : MCQ Option Shuffling : Yes

Correct Marks : 1 Wrong Marks : 0.25

In the following figure, rectangle represents artists, triangle represents military officers, circle represents social workers and square represents fathers. Which set of letters represents social workers who are fathers?



Options :

A goods truck is being parked in a warehouse. The truck is initially facing North. It is driven 20 feet ahead and then turned 90 degrees in the clockwise direction. Then it goes backwards for 10 feet and then turns 180 degrees in the anti-clockwise direction and stops for unloading. Which direction is the truck facing finally?

Options :

1. * East
2. ✓ West
3. * North
4. * South

Question Number : 32 Question Id : 54592734776 Question Type : MCQ Option Shuffling : Yes
Correct Marks : 1 Wrong Marks : 0.25

एक माल ट्रक को एक गोदाम में खड़ा किया जा रहा है। ट्रक शुरू में उत्तर की ओर है। इसे 20 फीट आगे चलाया जाता है और फिर दक्षिणावर्त दिशा में 90 डिग्री पर घुमाया जाता है। फिर यह 10 फीट तक पीछे की ओर जाता है और वामावर्त दिशा में 180 डिग्री पर मुड़ा जाता है तथा उतराई के लिए रुक जाता है। ट्रक आखिर किस दिशा की तरफ है?

Options :

1. * पूर्व
2. ✓ पश्चिम
3. * उत्तर
4. * दक्षिण

Question Number : 33 Question Id : 54592734777 Question Type : MCQ Option Shuffling : Yes
Correct Marks : 1 Wrong Marks : 0.25

In this question, two statements are given followed by an inference. Analyse the statements and the inference and determine whether the given inference can be drawn from the statements.

Statements:

- I. All parrots eat chillies.
- II. Mithu does not eat chillies.

Inference:

- I. Mithu is a parrot nevertheless.

Options :

- 1. ✖ The given inference is definitely true.
- 2. ✔ The given inference is definitely false.
- 3. ✖ The given inference could be true or false.
- 4. ✖ This inference cannot be drawn from the given statements.

Question Number : 33 Question Id : 54592734777 Question Type : MCQ Option Shuffling : Yes
Correct Marks : 1 Wrong Marks : 0.25

इस प्रश्न में, दो कथनों के बाद एक अनुमान लगाया जाता है। कथनों और अनुमानों का विश्लेषण करें और निर्धारित करें कि दिए गए अनुमानों को कथनों से निकाला जा सकता है या नहीं।

कथन:

- I. सभी तोते मिर्च खाते हैं।
- II. मिठू मिर्च नहीं खाता।

अनुमान:

- I. मिठू तोता है फिर भी।

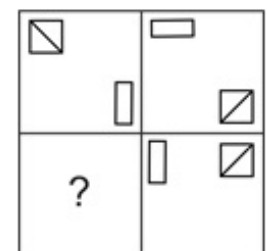
Options :

1. ✖ दिया गया अनुमान निश्चित रूप से सत्य है।
2. ✔ दिया गया अनुमान निश्चित रूप से गलत है।
3. ✖ दिया गया अनुमान सही या गलत हो सकता है।
4. ✖ यह निष्कर्ष दिए गए कथनों से नहीं निकाला जा सकता है।

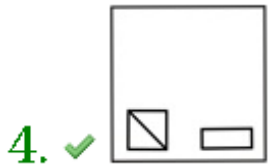
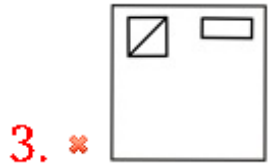
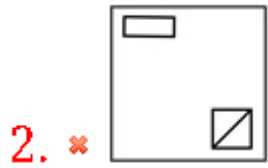
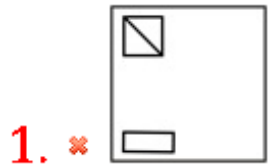
Question Number : 34 Question Id : 54592734778 Question Type : MCQ Option Shuffling : Yes

Correct Marks : 1 Wrong Marks : 0.25

Which answer figure will complete the pattern in the question figure?

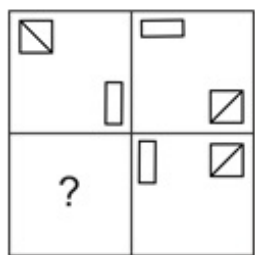


Options :

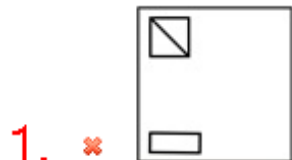


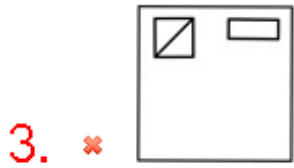
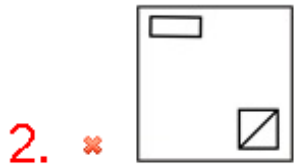
Question Number : 34 Question Id : 54592734778 Question Type : MCQ Option Shuffling : Yes
Correct Marks : 1 Wrong Marks : 0.25

कौन सी उत्तर आकृति प्रश्न आकृति के पैटर्न को पूरा करेगी?



Options :





Question Number : 35 Question Id : 54592734779 Question Type : MCQ Option Shuffling : Yes
 Correct Marks : 1 Wrong Marks : 0.25

Which of the following options is the wrong figure in the series?

| | | | | | | | | | | | | | |
|-------------|-------------|-------------|-------------|-------------|-------------|-------------|-------------|-------------|-------------|-------------|-------------|-------------|-------------|
| @ + C | ○ G O | x x O | @ @ O | K + @ | ○ ○ O | x x O | M M M | @ + + | ○ ○ O | S S O | w w O | x x O | @ @ O |
| a | | | b | | | c | | | d | | | | |

- Options :
- 1. ✘ A
 - 2. ✘ B
 - 3. ✔ C
 - 4. ✘ D

Question Number : 35 Question Id : 54592734779 Question Type : MCQ Option Shuffling : Yes
 Correct Marks : 1 Wrong Marks : 0.25

निम्नलिखित में से कौन सी विकल्प श्रृंखला में गलत आकृति है?

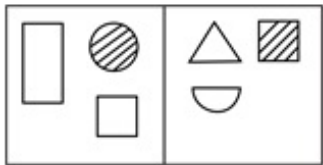
| | | | | | | | | | | | | | |
|-------------|-------------|-------------|-------------|-------------|-------------|-------------|-------------|-------------|-------------|-------------|-------------|-------------|-------------|
| @ + C | ○ G O | x x O | @ @ O | K + @ | ○ ○ O | x x O | M M M | @ + + | ○ ○ O | S S O | w w O | x x O | @ @ O |
| a | | | b | | | c | | | d | | | | |

Options :

- 1. ✘ A
- 2. ✘ B
- 3. ✔ C
- 4. ✘ D

Question Number : 36 Question Id : 54592734780 Question Type : MCQ Option Shuffling : Yes
Correct Marks : 1 Wrong Marks : 0.25

Figures given in which of the options is most similar to the two figures given in the question?



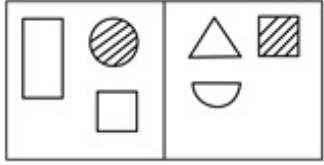
Options :



Question Number : 36 Question Id : 54592734780 Question Type : MCQ Option Shuffling : Yes

Correct Marks : 1 Wrong Marks : 0.25

किस विकल्प में दी गई आकृतियाँ प्रश्न में दी गई दो आकृतियों से सबसे अधिक समानता रखती हैं?



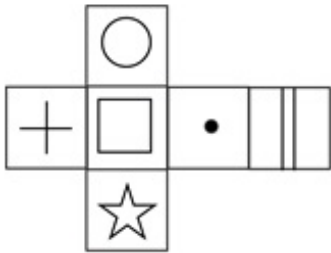
Options :



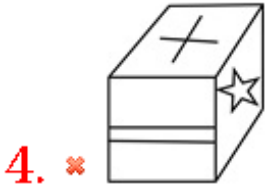
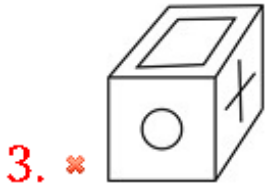
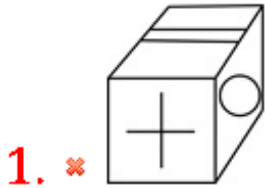
Question Number : 37 Question Id : 54592734781 Question Type : MCQ Option Shuffling : Yes

Correct Marks : 1 Wrong Marks : 0.25

Which of the following cubes in the answer figure CANNOT be made based on the unfolded cube in the question figure?

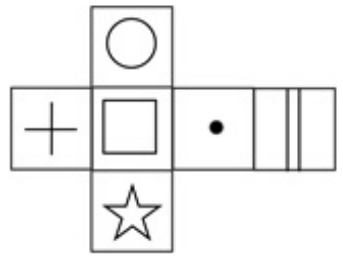


Options :

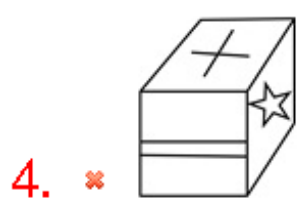
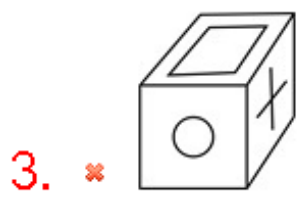
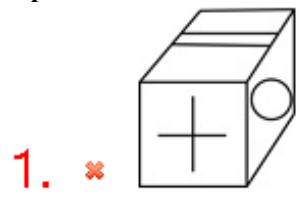


Question Number : 37 Question Id : 54592734781 Question Type : MCQ Option Shuffling : Yes
 Correct Marks : 1 Wrong Marks : 0.25


उत्तर आकृति में किस घन को प्रश्न आकृति में प्रकट घन के आधार पर नहीं बनाया जा सकता?



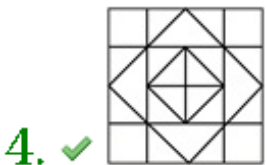
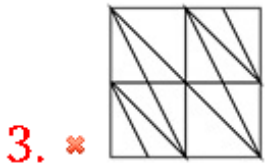
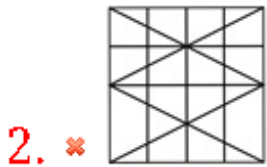
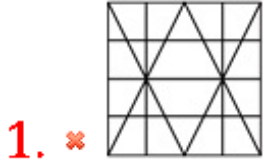
Options :



From the given answer figures, select the one in which the question figure is hidden/embedded.



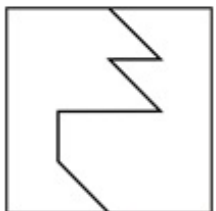
Options :



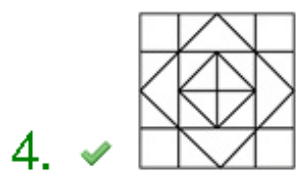
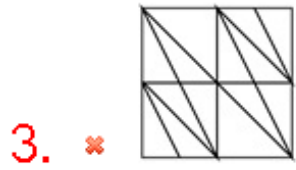
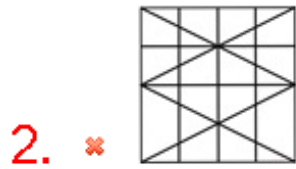
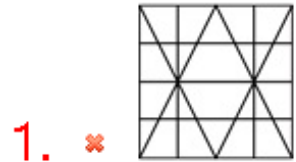
Question Number : 38 Question Id : 54592734782 Question Type : MCQ Option Shuffling : Yes

Correct Marks : 1 Wrong Marks : 0.25

दी गई उत्तर आकृतियों में से, उस एक का चयन करें जिसमें प्रश्न आकृति निहित है।



Options :

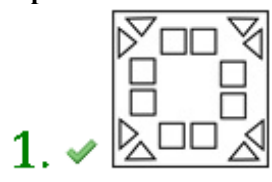



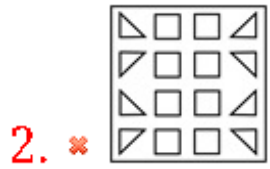
Question Number : 39 Question Id : 54592734783 Question Type : MCQ Option Shuffling : Yes
 Correct Marks : 1 Wrong Marks : 0.25

A piece of paper is folded and punched as shown below in the question figures. From the given answer figures, indicate how it will appear when opened.



Options :



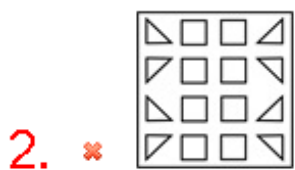
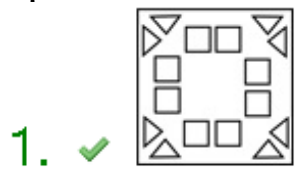


Question Number : 39 Question Id : 54592734783 Question Type : MCQ Option Shuffling : Yes
 Correct Marks : 1 Wrong Marks : 0.25

प्रश्न आकृति में नीचे दिखाए अनुसार पेपर के टुकड़े को मोड़कर उसमें छेद किए गए हैं। दी गई उत्तर आकृतियों से, इंगित करें कि इसे खोले जाने पर यह कैसा दिखाई देगा।



Options :



3. ✖

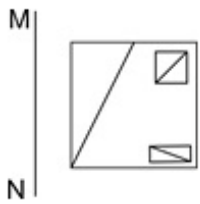


4. ✖



Question Number : 40 Question Id : 54592734784 Question Type : MCQ Option Shuffling : Yes
 Correct Marks : 1 Wrong Marks : 0.25

If a mirror is placed on the line MN, then which of the answer figures will be the right mirror image of the given figure?



Options :

1. ✖

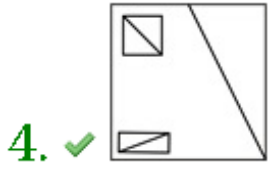


2. ✖



3. ✖

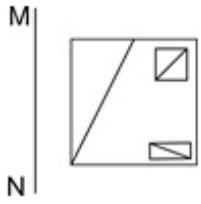




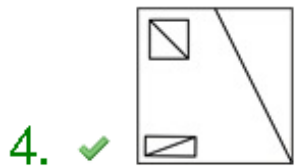
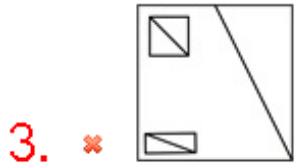
Question Number : 40 Question Id : 54592734784 Question Type : MCQ Option Shuffling : Yes

Correct Marks : 1 Wrong Marks : 0.25

यदि एक दर्पण को रेखा MN पर रखा गया है, तो कौन सी उत्तर आकृति दी गई आकृति का सही दर्पण प्रतिबिंब होगी?



Options :



General Awareness1

| | |
|---|------------|
| Group Number : | 3 |
| Group Id : | 5459271723 |
| Group Maximum Duration : | 0 |
| Group Minimum Duration : | 0 |
| Show Attended Group? : | No |
| Edit Attended Group? : | No |
| Break time: | 0 |
| Group Marks: | 20 |
| Is this Group for Examiner?: | No |
| Revisit allowed for group Instructions? : | Yes |
| Maximum Instruction Time: | 0 |
| Minimum Instruction Time: | 0 |

General Awareness1

| | |
|--------------------------------------|------------|
| Section Id : | 5459271723 |
| Section Number : | 1 |
| Section type : | Online |
| Mandatory or Optional: | Mandatory |
| Number of Questions: | 20 |
| Number of Questions to be attempted: | 20 |
| Section Marks: | 20 |

| | |
|------------------------------|------------|
| Sub-Section Number: | 1 |
| Sub-Section Id: | 5459272067 |
| Question Shuffling Allowed : | Yes |

Question Number : 41 Question Id : 54592734785 Question Type : MCQ Option Shuffling : Yes
Correct Marks : 1 Wrong Marks : 0.25

Which among the following dance forms is not associated with Andhra Pradesh?

Options :

1. ✘ Kuchipudi
2. ✘ Kolatam
3. ✘ Changu
4. ✔ Ghumura

Question Number : 41 Question Id : 54592734785 Question Type : MCQ Option Shuffling : Yes
Correct Marks : 1 Wrong Marks : 0.25

निम्नलिखित नृत्य रूपों में से कौन सा नृत्य आंध्र प्रदेश से संबंधित नहीं है?

Options :

1. * कुचिपुड़ी
2. * कोलतम
3. * चांगु
4. ✓ घुमरा

Question Number : 42 Question Id : 54592734786 Question Type : MCQ Option Shuffling : Yes
Correct Marks : 1 Wrong Marks : 0.25

Hareli is one of the major harvest festival of tribal _____ celebrated during the holy month of Sawan.

Options :

1. ✓ Chhattisgarh
2. * Gujarat
3. * Tamil Nadu
4. * Andhra Pradesh

Question Number : 42 Question Id : 54592734786 Question Type : MCQ Option Shuffling : Yes
Correct Marks : 1 Wrong Marks : 0.25

हरेली सावन के पवित्र महीने के दौरान मनाए जाने वाला _____ के आदिवासी का प्रमुख फसल त्योहार में से एक है।

Options :

1. ✓ छत्तीसगढ़
2. * गुजरात
3. * तमिल नाडु
4. * आंध्र प्रदेश

Question Number : 43 Question Id : 54592734787 Question Type : MCQ Option Shuffling : Yes
Correct Marks : 1 Wrong Marks : 0.25

Kut festival is a major Post Harvest festival celebrated in the month of _____ by Kuki-Chin tribes.

Options :

1. ✖ July
2. ✔ November
3. ✖ May
4. ✖ September

Question Number : 43 Question Id : 54592734787 Question Type : MCQ Option Shuffling : Yes

Correct Marks : 1 Wrong Marks : 0.25

कुट त्योहार एक प्रमुख फ़सल कटाई त्यौहार है जो कुकी-चिन जनजातियों द्वारा _____ के महीने में मनाया जाता है।

Options :

1. ✖ जुलाई
2. ✔ नवंबर
3. ✖ मई
4. ✖ सितंबर

Question Number : 44 Question Id : 54592734788 Question Type : MCQ Option Shuffling : Yes

Correct Marks : 1 Wrong Marks : 0.25

The theme of _____ song often revolves around the separation of lovers.

Options :

1. ✖ Rasiya
2. ✖ Qawwali
3. ✔ Birha
4. ✖ Ainchaliyan

Question Number : 44 Question Id : 54592734788 Question Type : MCQ Option Shuffling : Yes

Correct Marks : 1 Wrong Marks : 0.25

_____ गीत का विषय अक्सर प्रेमियों के वियोग के इर्द-गिर्द

घूमता है।

Options :

1. ✖ रसिया
2. ✖ कव्वाली
3. ✔ बिरहा
4. ✖ आंचलियाँ

Question Number : 45 Question Id : 54592734789 Question Type : MCQ Option Shuffling : Yes

Correct Marks : 1 Wrong Marks : 0.25

_____ is the minimum percentage of demand and time liabilities (deposits) that the bank has to maintain in form of gold, cash or other approved securities at the close of every business day.

Options :

1. ✖ Cash Reserve Ratio
2. ✖ Capital Adequacy Ratio
3. ✔ Statutory Liquidity Ratio
4. ✖ Reverse Repo Ratio

Question Number : 45 Question Id : 54592734789 Question Type : MCQ Option Shuffling : Yes

Correct Marks : 1 Wrong Marks : 0.25

_____ मांग और समय देनदारियों (जमा) का न्यूनतम प्रतिशत है जिसे बैंक को प्रत्येक व्यावसायिक दिन के अंत में सोने, नकदी या अन्य अनुमोदित प्रतिभूतियों के रूप में बनाए रखना होता है।

Options :

1. ✖ नकद आरक्षी अनुपात
2. ✖ पूंजी पर्याप्तता अनुपात
3. ✔ वैधानिक तरलता अनुपात

4. * रिवर्स रेपो अनुपात

Question Number : 46 Question Id : 54592734790 Question Type : MCQ Option Shuffling : Yes
Correct Marks : 1 Wrong Marks : 0.25

If the Government adopts a contractionary fiscal policy, then _____.

Options :

1. * aggregate demand curve will shift right.
2. * aggregate supply curve will shift right.
3. ✓ aggregate demand curve will shift left.
4. * aggregate supply curve will shift left.

Question Number : 46 Question Id : 54592734790 Question Type : MCQ Option Shuffling : Yes
Correct Marks : 1 Wrong Marks : 0.25

यदि सरकार एक संविदात्मक राजकोषीय नीति अपनाती है, तो _____.

Options :

1. * कुल मांग वक्र दाहिनी ओर शिफ्ट होगा।
2. * कुल आपूर्ति वक्र दाहिनी तरफ शिफ्ट होगा।
3. ✓ कुल मांग वक्र बाईं ओर शिफ्ट हो होगा।
4. * कुल आपूर्ति वक्र बाईं ओर शिफ्ट होगा।

Question Number : 47 Question Id : 54592734791 Question Type : MCQ Option Shuffling : Yes
Correct Marks : 1 Wrong Marks : 0.25

What is the minimum support price of Maize for 2018-19?

Options :

1. * Rs. 1425 per quintal
2. * Rs. 2500 per quintal
3. * Rs. 1950 per quintal
4. ✓ Rs. 1700 per quintal

Question Number : 47 Question Id : 54592734791 Question Type : MCQ Option Shuffling : Yes
Correct Marks : 1 Wrong Marks : 0.25

2018-19 के लिए मक्के का न्यूनतम समर्थन मूल्य क्या है?

Options :

1. * 1425 रुपये प्रति क्विंटल
2. * 2500 रुपये प्रति क्विंटल
3. * 1950 रुपये प्रति क्विंटल
4. ✓ 1700 रुपये प्रति क्विंटल

Question Number : 48 Question Id : 54592734792 Question Type : MCQ Option Shuffling : Yes

Correct Marks : 1 Wrong Marks : 0.25

Which among the following laws is also known as Gay-Lussac Law?

Options :

1. * Coulomb's Law
2. * Boyle's Law
3. * Joule's Law
4. ✓ Charle's Law

Question Number : 48 Question Id : 54592734792 Question Type : MCQ Option Shuffling : Yes

Correct Marks : 1 Wrong Marks : 0.25

निम्नलिखित में से किस नियम को गे-लुसाक नियम के रूप में भी जाना जाता है?

Options :

1. * कूलॉम का नियम
2. * बॉयल का नियम
3. * जूल का नियम
4. ✓ चार्ल्स का नियम

Question Number : 49 Question Id : 54592734793 Question Type : MCQ Option Shuffling : Yes

Correct Marks : 1 Wrong Marks : 0.25

Which among the following is not a characteristic of Alkali metals?

Options :

1. * They are very soft and can be cut easily with knife.
2. * They react quickly with water.
3. * They have low densities.
4. ✓ They have high melting and boiling points.

Question Number : 49 Question Id : 54592734793 Question Type : MCQ Option Shuffling : Yes

Correct Marks : 1 Wrong Marks : 0.25

निम्नलिखित में से कौन क्षार धातुओं की विशेषता नहीं है?

Options :

1. * वे बहुत नरम होती हैं और चाकू से आसानी से काटी जा सकती हैं।
2. * वे पानी के साथ जल्दी अभिक्रिया करती हैं।
3. * उनका घनत्व कम होता है।
4. ✓ उनके उच्च गलनांक और क्वथनांक हैं।

Question Number : 50 Question Id : 54592734794 Question Type : MCQ Option Shuffling : Yes

Correct Marks : 1 Wrong Marks : 0.25

The phenomenon by which plants grow or respond to touch is known as _____ .

Options :

1. ✓ Thigmotropism
2. * Phototropism
3. * Transpiration
4. * Osmosis

Question Number : 50 Question Id : 54592734794 Question Type : MCQ Option Shuffling : Yes

Correct Marks : 1 Wrong Marks : 0.25

वह घटना जिसके द्वारा पौधे बढ़ते हैं या स्पर्श करने पर प्रतिक्रिया करते हैं, _____ के रूप में जाना जाता है।

Options :

1. ✓ थिग्मोट्रॉपीज्म
2. ✗ प्रकाशानुवर्तन
3. ✗ वाष्पोत्सर्जन
4. ✗ परासरण

Question Number : 51 Question Id : 54592734795 Question Type : MCQ Option Shuffling : Yes

Correct Marks : 1 Wrong Marks : 0.25

Anemophily is a form of pollination whereby pollen is distributed by _____.

Options :

1. ✗ butterfly
2. ✗ bee
3. ✗ water
4. ✓ wind

Question Number : 51 Question Id : 54592734795 Question Type : MCQ Option Shuffling : Yes

Correct Marks : 1 Wrong Marks : 0.25

एनेमोफिली परागण का एक रूप है जिसके द्वारा पराग को _____ द्वारा वितरित किया जाता है।

Options :

1. ✗ तितली
2. ✗ मधुमक्खी
3. ✗ पानी
4. ✓ हवा

Question Number : 52 Question Id : 54592734796 Question Type : MCQ Option Shuffling : Yes

Correct Marks : 1 Wrong Marks : 0.25

_____ have dorso-ventrally flattened body and hence are called flatworms.

Options :

1. * Aschelminthes
2. * Arthropoda
3. * Mollusca
4. ✓ Platyhelminthes

Question Number : 52 Question Id : 54592734796 Question Type : MCQ Option Shuffling : Yes

Correct Marks : 1 Wrong Marks : 0.25

_____ में दोस्रो -वेंद्री भाग में चपटा शरीर है और इसलिए इसे चपटा कृमि कहा जाता है।

Options :

1. * असचेल्मिन्थेस
2. * सन्धिपाद (आर्थ्रोपोडा)
3. * मोलस्का
4. ✓ प्लैटीहेल्मिन्थेस

Question Number : 53 Question Id : 54592734797 Question Type : MCQ Option Shuffling : Yes

Correct Marks : 1 Wrong Marks : 0.25

Where is the famous Kanha National park located?

Options :

1. * Uttar Pradesh
2. ✓ Madhya Pradesh
3. * Karnataka
4. * Gujarat

Question Number : 53 Question Id : 54592734797 Question Type : MCQ Option Shuffling : Yes

Correct Marks : 1 Wrong Marks : 0.25

प्रसिद्ध कान्हा राष्ट्रीय उद्यान कहाँ स्थित है?

Options :

1. ✖ उत्तर प्रदेश

2. ✔ मध्य प्रदेश

3. ✖ कर्नाटक

4. ✖ गुजरात

Question Number : 54 Question Id : 54592734798 Question Type : MCQ Option Shuffling : Yes
Correct Marks : 1 Wrong Marks : 0.25

_____ is a measure of the variety of organisms present in different ecosystems.

Options :

1. ✖ Biogeography

2. ✖ Estuary

3. ✔ Biodiversity

4. ✖ Composting

Question Number : 54 Question Id : 54592734798 Question Type : MCQ Option Shuffling : Yes
Correct Marks : 1 Wrong Marks : 0.25

_____ विभिन्न पारिस्थितिक तंत्रों में मौजूद जीवों की विविधता का एक मापन है।

Options :

1. ✖ जैव भूगोल

2. ✖ ज्वारनदीमुख

3. ✔ जैव विविधता

4. ✖ खाद

Question Number : 55 Question Id : 54592734799 Question Type : MCQ Option Shuffling : Yes
Correct Marks : 1 Wrong Marks : 0.25

Scurvy is caused due to the deficiency of Vitamin _____.

Options :

1. ✖ A

2. ✓ C

3. ✗ D

4. ✗ E

Question Number : 55 Question Id : 54592734799 Question Type : MCQ Option Shuffling : Yes
Correct Marks : 1 Wrong Marks : 0.25

स्कर्वी रोग विटामिन _____ की कमी के कारण होता है।

Options :

1. ✗ A

2. ✓ C

3. ✗ D

4. ✗ E

Question Number : 56 Question Id : 54592734800 Question Type : MCQ Option Shuffling : Yes
Correct Marks : 1 Wrong Marks : 0.25

Which among the following rivers is not a tributary of the Tapi river?

Options :

1. ✗ Bori

2. ✗ Aner

3. ✗ Girnar

4. ✓ Betwa

Question Number : 56 Question Id : 54592734800 Question Type : MCQ Option Shuffling : Yes
Correct Marks : 1 Wrong Marks : 0.25

निम्नलिखित नदियों में से कौन तापी नदी की सहायक नदी नहीं है?

Options :

1. ✗ बोरी

2. ✗ आनेर

3. ✗ गिरनार

4. ✓ बेतवा

Question Number : 57 Question Id : 54592734801 Question Type : MCQ Option Shuffling : Yes
Correct Marks : 1 Wrong Marks : 0.25

Which among the following mountain ranges is also known as Seven Sisters?

Options :

1. ✓ Purvanchal Range
2. ✘ Vindhaya Range
3. ✘ Aravalli Range
4. ✘ Karakoram Range

Question Number : 57 Question Id : 54592734801 Question Type : MCQ Option Shuffling : Yes
Correct Marks : 1 Wrong Marks : 0.25

निम्नलिखित में से किस पर्वतमाला को सेवन सिस्टर्स के नाम से भी जाना जाता है?

Options :

1. ✓ पूर्वांचल पर्वतमाला
2. ✘ विंध्य पर्वतमाला
3. ✘ अरावली पर्वतमाला
4. ✘ काराकोरम पर्वतमाला

Question Number : 58 Question Id : 54592734802 Question Type : MCQ Option Shuffling : Yes
Correct Marks : 1 Wrong Marks : 0.25

_____ is also called the Elephant Hills in local language.

Options :

1. ✘ Nilgiri Hills
2. ✘ Cardamom Hills
3. ✓ Anaimalai Hills
4. ✘ Tapovan Hills

Question Number : 58 Question Id : 54592734802 Question Type : MCQ Option Shuffling : Yes

Correct Marks : 1 Wrong Marks : 0.25

_____ को स्थानीय भाषा में एलिफेंट हिल्स भी कहा जाता है।

Options :

1. * नीलगिरि पहाड़ियाँ
2. * इलायची पहाड़ियाँ
3. ✓ अन्नामलाई पहाड़ियाँ
4. * तपोवन पहाड़ियाँ

Question Number : 59 Question Id : 54592734803 Question Type : MCQ Option Shuffling : Yes

Correct Marks : 1 Wrong Marks : 0.25

The Persian Gulf is an extension of the _____ in Western Asia.

Options :

1. * Pacific Ocean
2. * Atlantic Ocean
3. ✓ Indian Ocean
4. * Southern Ocean

Question Number : 59 Question Id : 54592734803 Question Type : MCQ Option Shuffling : Yes

Correct Marks : 1 Wrong Marks : 0.25

फारस की खाड़ी पश्चिमी एशिया में _____ का विस्तार है।

Options :

1. * प्रशांत महासागर
2. * अटलांटिक महासागर
3. ✓ हिंद महासागर
4. * दक्षिणी महासागर

Question Number : 60 Question Id : 54592734804 Question Type : MCQ Option Shuffling : Yes

Correct Marks : 1 Wrong Marks : 0.25

Pomiculture is the type of agriculture which is associated with growing of _____.

Options :

1. ✖ flowers
2. ✖ birds
3. ✖ fish
4. ✔ fruits

Question Number : 60 Question Id : 54592734804 Question Type : MCQ Option Shuffling : Yes
Correct Marks : 1 Wrong Marks : 0.25

पोमीकल्चर कृषि का प्रकार है जो _____ के बढ़ने से जुड़ा है।

Options :

1. ✖ पुष्प
2. ✖ पक्षी
3. ✖ मछली
4. ✔ फल

General Awareness2

| | |
|---|------------|
| Group Number : | 4 |
| Group Id : | 5459271724 |
| Group Maximum Duration : | 0 |
| Group Minimum Duration : | 0 |
| Show Attended Group? : | No |
| Edit Attended Group? : | No |
| Break time: | 0 |
| Group Marks: | 20 |
| Is this Group for Examiner? : | No |
| Revisit allowed for group Instructions? : | Yes |
| Maximum Instruction Time: | 0 |
| Minimum Instruction Time: | 0 |

General Awareness2

| | |
|--------------------------------------|------------|
| Section Id : | 5459271724 |
| Section Number : | 1 |
| Section type : | Online |
| Mandatory or Optional: | Mandatory |
| Number of Questions: | 20 |
| Number of Questions to be attempted: | 20 |
| Section Marks: | 20 |

Sub-Section Number: 1
Sub-Section Id: 5459272068
Question Shuffling Allowed : Yes

Question Number : 61 Question Id : 54592734805 Question Type : MCQ Option Shuffling : Yes
Correct Marks : 1 Wrong Marks : 0.25

Which among the following countries is the largest producer of strawberry?

Options :

1. ✓ China
2. ✗ Brazil
3. ✗ Turkey
4. ✗ Indonesia

Question Number : 61 Question Id : 54592734805 Question Type : MCQ Option Shuffling : Yes
Correct Marks : 1 Wrong Marks : 0.25

निम्नलिखित देशों में से कौन सा देश स्ट्रॉबेरी का सबसे बड़ा उत्पादक है?

Options :

1. ✓ चीन
2. ✗ ब्राज़ील
3. ✗ तुर्की
4. ✗ इंडोनेशिया

Question Number : 62 Question Id : 54592734806 Question Type : MCQ Option Shuffling : Yes
Correct Marks : 1 Wrong Marks : 0.25

Mesopotamia broadly refers to the lands between the rivers Euphrates and _____.

Options :

1. ✗ Ganga
2. ✗ Indus

3. ✓ Tigris

4. ✘ Nile

Question Number : 62 Question Id : 54592734806 Question Type : MCQ Option Shuffling : Yes

Correct Marks : 1 Wrong Marks : 0.25

मेसोपोटामिया बड़े पैमाने पर फ़रात नदी और _____ नदियों के बीच की भूमि को संदर्भित करता है।

Options :

1. ✘ गंगा

2. ✘ सिंधु

3. ✓ दजला (टिगरिस)

4. ✘ नील

Question Number : 63 Question Id : 54592734807 Question Type : MCQ Option Shuffling : Yes

Correct Marks : 1 Wrong Marks : 0.25

Who was the last king of the Gupta Dynasty?

Options :

1. ✘ Sri Gupta

2. ✓ Vishnu Gupta

3. ✘ Samudragupta

4. ✘ Ramagupta

Question Number : 63 Question Id : 54592734807 Question Type : MCQ Option Shuffling : Yes

Correct Marks : 1 Wrong Marks : 0.25

गुप्त राजवंश का अंतिम राजा कौन था?

Options :

1. ✘ श्रीगुप्त

2. ✓ विष्णु गुप्ता

3. ✘ समुद्रगुप्त

4. ✘ रामगुप्त

Question Number : 64 Question Id : 54592734808 Question Type : MCQ Option Shuffling : Yes
Correct Marks : 1 Wrong Marks : 0.25

Who led the Chittagong Armoury Raid?

Options :

1. ✓ Surya Sen
2. ✗ Mahatma Gandhi
3. ✗ Jawaharlal Nehru
4. ✗ Subash Chandra Bose

Question Number : 64 Question Id : 54592734808 Question Type : MCQ Option Shuffling : Yes
Correct Marks : 1 Wrong Marks : 0.25

चटगांव विद्रोह का नेतृत्व किसने किया था?

Options :

1. ✓ सूर्य सेन
2. ✗ महात्मा गांधी
3. ✗ जवाहरलाल नेहरू
4. ✗ सुभाष चंद्र बोस

Question Number : 65 Question Id : 54592734809 Question Type : MCQ Option Shuffling : Yes
Correct Marks : 1 Wrong Marks : 0.25

Mahatma Gandhi launched the Kheda Satyagraha in _____ to help the cultivators of Gujarat who were going through a year of near famine.

Options :

1. ✗ 1915
2. ✓ 1918
3. ✗ 1922
4. ✗ 1925

Question Number : 65 Question Id : 54592734809 Question Type : MCQ Option Shuffling : Yes
Correct Marks : 1 Wrong Marks : 0.25

महात्मा गांधी ने गुजरात के किसानों की मदद के लिए _____ में खेड़ा सत्याग्रह का शुभारंभ किया, जो एक वर्ष से अकाल की चपेट में थे।

Options :

1. ✘ 1915
2. ✔ 1918
3. ✘ 1922
4. ✘ 1925

Question Number : 66 Question Id : 54592734810 Question Type : MCQ Option Shuffling : Yes
Correct Marks : 1 Wrong Marks : 0.25

_____ was the capital of Pallava Dynasty.

Options :

1. ✔ Kanchipuram
2. ✘ Pataliputra
3. ✘ Taxila
4. ✘ Badami

Question Number : 66 Question Id : 54592734810 Question Type : MCQ Option Shuffling : Yes
Correct Marks : 1 Wrong Marks : 0.25

_____ पल्लव राजवंश की राजधानी थी।

Options :

1. ✔ कांचीपुरम
2. ✘ पाटलिपुत्र
3. ✘ तक्षशिला
4. ✘ बादामी

Question Number : 67 Question Id : 54592734811 Question Type : MCQ Option Shuffling : Yes
Correct Marks : 1 Wrong Marks : 0.25

The Brahma Samaj was started at _____ in 1828 by Raja Ram Mohan Roy.

Options :

1. ✖ Mumbai
2. ✔ Kolkata
3. ✖ Bangalore
4. ✖ Chandigarh

Question Number : 67 Question Id : 54592734811 Question Type : MCQ Option Shuffling : Yes
Correct Marks : 1 Wrong Marks : 0.25

राजा राम मोहन राय द्वारा 1828 में _____ में ब्रह्म समाज की शुरुआत की गई थी।

Options :

1. ✖ मुंबई
2. ✔ कोलकाता
3. ✖ बंगलौर
4. ✖ चंडीगढ़

Question Number : 68 Question Id : 54592734812 Question Type : MCQ Option Shuffling : Yes
Correct Marks : 1 Wrong Marks : 0.25

She established the Central Hindu College in 1898 and is also well known for her Home Rule movement. Who is she?

Options :

1. ✖ Mother Teresa
2. ✔ Annie Besant
3. ✖ Sarojini Naidu
4. ✖ Vijaya Lakshmi Pandit

Question Number : 68 Question Id : 54592734812 Question Type : MCQ Option Shuffling : Yes
Correct Marks : 1 Wrong Marks : 0.25

उन्होंने 1898 में केंद्रीय हिंदू महाविद्यालय की स्थापना की और उन्हें स्वशासन आंदोलन के लिए भी जाना जाता है। वह कौन हैं?

Options :

1. ✖ मदर टेरेसा
2. ✔ एनी बेसेंट
3. ✖ सरोजिनी नायडू
4. ✖ विजया लक्ष्मी पंडित

Question Number : 69 Question Id : 54592734813 Question Type : MCQ Option Shuffling : Yes

Correct Marks : 1 Wrong Marks : 0.25

Subrahmanyam Chandrasekhar received the Nobel prize in 1983 for his contribution in the field of _____.

Options :

1. ✖ Peace
2. ✖ Chemistry
3. ✔ Physics
4. ✖ Literature

Question Number : 69 Question Id : 54592734813 Question Type : MCQ Option Shuffling : Yes

Correct Marks : 1 Wrong Marks : 0.25

सुब्रह्मण्यम चंद्रशेखर को 1983 में _____ के क्षेत्र में उनके योगदान के लिए नोबेल पुरस्कार मिला।

Options :

1. ✖ शांति
2. ✖ रसायन विज्ञान
3. ✔ भौतिकी
4. ✖ साहित्य

Question Number : 70 Question Id : 54592734814 Question Type : MCQ Option Shuffling : Yes

Correct Marks : 1 Wrong Marks : 0.25

Sandeep Byala was the first person to receive the Arjuna Award for _____.

Options :

1. * Golf
2. * Football
3. * Archery
4. ✓ Judo

Question Number : 70 Question Id : 54592734814 Question Type : MCQ Option Shuffling : Yes

Correct Marks : 1 Wrong Marks : 0.25

संदीप ब्याला _____ के लिए अर्जुन पुरस्कार प्राप्त करने वाले पहले व्यक्ति थे।

Options :

1. * गोल्फ़
2. * फ़ुटबॉल
3. * धनुर्विद्या
4. ✓ जूडो

Question Number : 71 Question Id : 54592734815 Question Type : MCQ Option Shuffling : Yes

Correct Marks : 1 Wrong Marks : 0.25

"India 2020 - A Vision for the New Millennium" is written by _____.

Options :

1. ✓ Avul Pakir Jainulabdeen Abdul Kalam
2. * Rajendra Prasad
3. * Sarvepalli Radhakrishnan
4. * Ravindra Nath

Question Number : 71 Question Id : 54592734815 Question Type : MCQ Option Shuffling : Yes

Correct Marks : 1 Wrong Marks : 0.25

"इंडिया 2020 - ए विजन फॉर द न्यू मिलेनियम" _____

द्वारा लिखी गई है।

Options :

1. ✓ अबुल पाकिर जैनुलाअबदीन अब्दुल कलाम
2. ✗ राजेंद्र प्रसाद
3. ✗ सर्वेपल्लि राधाकृष्णन
4. ✗ रवींद्र नाथ

Question Number : 72 Question Id : 54592734816 Question Type : MCQ Option Shuffling : Yes

Correct Marks : 1 Wrong Marks : 0.25

Which among the following international organisations is not based in Geneva?

Options :

1. ✗ International Organization for Standardization
2. ✗ International Labour Organization
3. ✗ World Health Organization
4. ✓ Food and Agriculture Organization

Question Number : 72 Question Id : 54592734816 Question Type : MCQ Option Shuffling : Yes

Correct Marks : 1 Wrong Marks : 0.25

निम्नलिखित में से कौन सा अंतर्राष्ट्रीय संगठन जिनेवा में स्थित नहीं है?

Options :

1. ✗ अंतरराष्ट्रीय मानकीकरण संगठन
2. ✗ अंतर्राष्ट्रीय श्रमिक संगठन
3. ✗ विश्व स्वास्थ्य संगठन
4. ✓ खाद्य और कृषि संगठन

Question Number : 73 Question Id : 54592734817 Question Type : MCQ Option Shuffling : Yes

Correct Marks : 1 Wrong Marks : 0.25

Indian-Australian mathematician Akshay Venkatesh won the Nobel prize in 2014 for his contribution in the field of _____.

Options :

1. * Geography
2. * Physics
3. ✓ Mathematics
4. * Chemistry

Question Number : 73 Question Id : 54592734817 Question Type : MCQ Option Shuffling : Yes

Correct Marks : 1 Wrong Marks : 0.25

भारतीय-ऑस्ट्रेलियाई गणितज्ञ अक्षय वेंकटेश को _____ के क्षेत्र में उनके योगदान के लिए 2014 में नोबेल पुरस्कार मिला।

Options :

1. * भूगोल
2. * भौतिकी
3. ✓ गणित
4. * रसायन विज्ञान

Question Number : 74 Question Id : 54592734818 Question Type : MCQ Option Shuffling : Yes

Correct Marks : 1 Wrong Marks : 0.25

What is the upper age limit for appointment as a member of a Union Commission?

Options :

1. ✓ 65 years
2. * 62 years
3. * 70 years
4. * 72 years

Question Number : 74 Question Id : 54592734818 Question Type : MCQ Option Shuffling : Yes

Correct Marks : 1 Wrong Marks : 0.25

संघ आयोग के सदस्य के रूप में नियुक्ति के लिए ऊपरी आयु सीमा क्या है?

Options :

1. ✓ 65 वर्ष
2. ✗ 62 वर्ष
3. ✗ 70 वर्ष
4. ✗ 72 वर्ष

Question Number : 75 Question Id : 54592734819 Question Type : MCQ Option Shuffling : Yes

Correct Marks : 1 Wrong Marks : 0.25

With which of the following amendments Goods and Services Tax was introduced?

Options :

1. ✗ 100
2. ✓ 101
3. ✗ 102
4. ✗ 103

Question Number : 75 Question Id : 54592734819 Question Type : MCQ Option Shuffling : Yes

Correct Marks : 1 Wrong Marks : 0.25

निम्नलिखित में से किस संशोधन के साथ वस्तु एवं सेवा कर पेश किया गया था?

Options :

1. ✗ 100
2. ✓ 101
3. ✗ 102
4. ✗ 103

Question Number : 76 Question Id : 54592734820 Question Type : MCQ Option Shuffling : Yes

Correct Marks : 1 Wrong Marks : 0.25

Out of 250 members of Rajya Sabha, _____ members are nominated by the President.

Options :

1. ✖ 20
2. ✖ 15
3. ✖ 18
4. ✔ 12

Question Number : 76 Question Id : 54592734820 Question Type : MCQ Option Shuffling : Yes

Correct Marks : 1 Wrong Marks : 0.25

राज्य सभा के 250 सदस्यों में से _____ सदस्य राष्ट्रपति द्वारा नामित किए जाते हैं।

Options :

1. ✖ 20
2. ✖ 15
3. ✖ 18
4. ✔ 12

Question Number : 77 Question Id : 54592734821 Question Type : MCQ Option Shuffling : Yes

Correct Marks : 1 Wrong Marks : 0.25

Article 170 states that the number of seats in the Legislative Assembly of each State should not be more than _____.

Options :

1. ✖ 350
2. ✔ 500
3. ✖ 400
4. ✖ 450

Question Number : 77 Question Id : 54592734821 Question Type : MCQ Option Shuffling : Yes

Correct Marks : 1 Wrong Marks : 0.25

अनुच्छेद 170 में कहा गया है कि प्रत्येक राज्य की विधान सभा में सीटों की संख्या _____ से अधिक नहीं होनी चाहिए।

Options :

1. ✖ 350
2. ✔ 500
3. ✖ 400
4. ✖ 450

Question Number : 78 Question Id : 54592734822 Question Type : MCQ Option Shuffling : Yes
Correct Marks : 1 Wrong Marks : 0.25

Who among the following teams won the Premier Badminton League in 2018-19?

Options :

1. ✔ Bengaluru Raptors
2. ✖ Hyderabad Hunters
3. ✖ Chennai Smashers
4. ✖ Delhi Dashers

Question Number : 78 Question Id : 54592734822 Question Type : MCQ Option Shuffling : Yes
Correct Marks : 1 Wrong Marks : 0.25

निम्नलिखित टीमों में से किसने 2018-19 में प्रीमियर बैडमिंटन लीग जीता?

Options :

1. ✔ बेंगलुरु रैप्टर्स
2. ✖ हैदराबाद हंटर्स
3. ✖ चेन्नई स्मैशर्स
4. ✖ दिल्ली डैशर्स

Question Number : 79 Question Id : 54592734823 Question Type : MCQ Option Shuffling : Yes
Correct Marks : 1 Wrong Marks : 0.25

_____ won Indian Premier League title 2019.

Options :

1. ✖ Chennai Super Kings
2. ✔ Mumbai Indians
3. ✖ Kolkata Knight Riders
4. ✖ Delhi Daredevils

Question Number : 79 Question Id : 54592734823 Question Type : MCQ Option Shuffling : Yes
Correct Marks : 1 Wrong Marks : 0.25

_____ ने इंडियन प्रीमियर लीग का खिताब 2019 जीता।

Options :

1. ✖ चेन्नई सुपर किंग्स
2. ✔ मुंबई इंडियंस
3. ✖ कोलकाता नाइट राइडर्स
4. ✖ दिल्ली डेयरडेविल्स

Question Number : 80 Question Id : 54592734824 Question Type : MCQ Option Shuffling : Yes
Correct Marks : 1 Wrong Marks : 0.25

India finished Asian Wrestling Championships tournament 2019 held in Xian, China with a total of _____ medals.

Options :

1. ✔ 16
2. ✖ 10
3. ✖ 18
4. ✖ 20

Question Number : 80 Question Id : 54592734824 Question Type : MCQ Option Shuffling : Yes
Correct Marks : 1 Wrong Marks : 0.25

भारत ने चीन के शिआन में आयोजित एशिया रेसलिंग चैंपियनशिप टूर्नामेंट 2019 को कुल _____ पदक के साथ समाप्त किया।

Options :

1. ✓ 16

2. ✗ 10

3. ✗ 18

4. ✗ 20

Arithmetic Ability1

| | |
|---|------------|
| Group Number : | 5 |
| Group Id : | 5459271725 |
| Group Maximum Duration : | 0 |
| Group Minimum Duration : | 0 |
| Show Attended Group? : | No |
| Edit Attended Group? : | No |
| Break time: | 0 |
| Group Marks: | 20 |
| Is this Group for Examiner?: | No |
| Revisit allowed for group Instructions? : | Yes |
| Maximum Instruction Time: | 0 |
| Minimum Instruction Time: | 0 |

Arithmetic Ability1

| | |
|--------------------------------------|------------|
| Section Id : | 5459271725 |
| Section Number : | 1 |
| Section type : | Online |
| Mandatory or Optional: | Mandatory |
| Number of Questions: | 20 |
| Number of Questions to be attempted: | 20 |
| Section Marks: | 20 |

| | |
|------------------------------|------------|
| Sub-Section Number: | 1 |
| Sub-Section Id: | 5459272069 |
| Question Shuffling Allowed : | Yes |

Question Number : 81 Question Id : 54592734825 Question Type : MCQ Option Shuffling : Yes
Correct Marks : 1 Wrong Marks : 0.25

Find the value of: $10 \div 5 \times 4 + 8 \div 2 = ?$

Options :

1. ✓ 12

2. ✖ 15

3. ✖ 18

4. ✖ 21

Question Number : 81 Question Id : 54592734825 Question Type : MCQ Option Shuffling : Yes
Correct Marks : 1 Wrong Marks : 0.25

$10 \div 5 \times 4 + 8 \div 2 = ?$ का मूल्य ज्ञात करें।

Options :

1. ✔ 12

2. ✖ 15

3. ✖ 18

4. ✖ 21

Question Number : 82 Question Id : 54592734826 Question Type : MCQ Option Shuffling : Yes
Correct Marks : 1 Wrong Marks : 0.25

Find the least number by which 1800 must be multiplied to make it a perfect square.

Options :

1. ✔ 2

2. ✖ 3

3. ✖ 4

4. ✖ 5

Question Number : 82 Question Id : 54592734826 Question Type : MCQ Option Shuffling : Yes
Correct Marks : 1 Wrong Marks : 0.25

वह न्यूनतम संख्या ज्ञात करें जिसके द्वारा 1800 को पूर्ण वर्ग बनाने के लिए गुणा किया जाना चाहिए।

Options :

1. ✔ 2

2. ✖ 3

3. ✖ 4

4. ✖ 5

Question Number : 83 Question Id : 54592734827 Question Type : MCQ Option Shuffling : Yes
Correct Marks : 1 Wrong Marks : 0.25

Convert 11011101 binary to decimal.

Options :

1. ✖ 218

2. ✖ 219

3. ✖ 220

4. ✔ 221

Question Number : 83 Question Id : 54592734827 Question Type : MCQ Option Shuffling : Yes
Correct Marks : 1 Wrong Marks : 0.25

11011101 को बाइनरी से दशमलव में रूपांतरित करें।

Options :

1. ✖ 218

2. ✖ 219

3. ✖ 220

4. ✔ 221

Question Number : 84 Question Id : 54592734828 Question Type : MCQ Option Shuffling : Yes
Correct Marks : 1 Wrong Marks : 0.25

Find the value of: $\sqrt{(3 + \sqrt{(27 + \sqrt{(73 + \sqrt{64}))})})} = ?$

Options :

1. ✖ 1

2. ✖ 2

3. ✔ 3

4. ✖ 4

Question Number : 84 Question Id : 54592734828 Question Type : MCQ Option Shuffling : Yes
Correct Marks : 1 Wrong Marks : 0.25

$\sqrt{(3 + \sqrt{(27 + \sqrt{(73 + \sqrt{64}))})})} = ?$ का मूल्य ज्ञात करें।

Options :

1. ✖ 1

2. ✖ 2

3. ✔ 3

4. ✖ 4

Question Number : 85 Question Id : 54592734829 Question Type : MCQ Option Shuffling : Yes

Correct Marks : 1 Wrong Marks : 0.25

Find the product of the sum of digits of the smallest 4-digit number divisible by 11 and the sum of the digits of smallest 4-digit number divisible by 13.

Options :

1. ✖ 1

2. ✖ 2

3. ✔ 4

4. ✖ 6

Question Number : 85 Question Id : 54592734829 Question Type : MCQ Option Shuffling : Yes

Correct Marks : 1 Wrong Marks : 0.25

11 से विभाजित होने वाले 4-अंकीय संख्या के सबसे छोटे अंको का योग और 13 से विभाजित होने वाले 4-अंकीय संख्या के सबसे छोटे अंको के योग का गुणनफल ज्ञात करें।

Options :

1. ✖ 1

2. ✖ 2

3. ✔ 4

4. ✖ 6

Question Number : 86 Question Id : 54592734830 Question Type : MCQ Option Shuffling : Yes
Correct Marks : 1 Wrong Marks : 0.25

A man has Re. 1, Rs. 2 and Rs 5 coins in the ratio of 5 : 4 : 3 and a total sum of Rs. 56. How many coins does he have in total?

Options :

1. ✖ 9
2. ✖ 18
3. ✖ 15
4. ✔ 24

Question Number : 86 Question Id : 54592734830 Question Type : MCQ Option Shuffling : Yes
Correct Marks : 1 Wrong Marks : 0.25

एक आदमी के पास 5 : 4 : 3 के अनुपात में 1 रुपये, 2 रुपये और 5 रुपये के सिक्के हैं और कुल मिलाकर 56 रुपये हैं। उसके पास कुल कितने सिक्के हैं?

Options :

1. ✖ 9
2. ✖ 18
3. ✖ 15
4. ✔ 24

Question Number : 87 Question Id : 54592734831 Question Type : MCQ Option Shuffling : Yes
Correct Marks : 1 Wrong Marks : 0.25

Find the greatest number which on dividing 1029, 1670 and 2305 leaves a remainder of 5, 6 and 1 respectively.

Options :

1. ✖ 64
2. ✔ 128
3. ✖ 192

4. ✖ 256

Question Number : 87 Question Id : 54592734831 Question Type : MCQ Option Shuffling : Yes
Correct Marks : 1 Wrong Marks : 0.25

वह सबसे बड़ी संख्या ज्ञात करें जो 1029, 1670 और 2305 को विभाजित करने के बाद क्रमशः 5, 6 और 1 शेष छोड़ती है।

Options :

1. ✖ 64

2. ✔ 128

3. ✖ 192

4. ✖ 256

Question Number : 88 Question Id : 54592734832 Question Type : MCQ Option Shuffling : Yes
Correct Marks : 1 Wrong Marks : 0.25

Free notebooks were distributed equally among children of a class. The number of notebooks each child got was $\frac{1}{8}$ th of the number of children. Had the number of children been half, each child would have got 16 notebooks. How many notebooks were distributed in total?

Options :

1. ✖ 64

2. ✖ 128

3. ✖ 256

4. ✔ 512

Question Number : 88 Question Id : 54592734832 Question Type : MCQ Option Shuffling : Yes
Correct Marks : 1 Wrong Marks : 0.25

एक कक्षा के बच्चों को मुफ्त नोटबुक वितरित किए गए। प्रत्येक बच्चे को मिलने वाली नोटबुक की संख्या बच्चों की संख्या का $\frac{1}{8}$ वां हिस्सा थी। अगर बच्चों की संख्या आधी होती, तो प्रत्येक बच्चे को 16 नोटबुक मिलती। कुल कितने नोटबुक वितरित किए गए थे?

Options :

1. ✖ 64
2. ✖ 128
3. ✖ 256
4. ✔ 512

Question Number : 89 Question Id : 54592734833 Question Type : MCQ Option Shuffling : Yes

Correct Marks : 1 Wrong Marks : 0.25

$\frac{1}{3}$ rd of X's savings in PPF is equal to $\frac{1}{2}$ of his savings in NSC. If he has a total of Rs. 30,000 in savings, how much has he saved in PPF?

Options :

1. ✔ 18000
2. ✖ 15000
3. ✖ 21000
4. ✖ 19500

Question Number : 89 Question Id : 54592734833 Question Type : MCQ Option Shuffling : Yes

Correct Marks : 1 Wrong Marks : 0.25

PPF में X की बचत का $\frac{1}{3}$ वां NSC में उसकी बचत के $\frac{1}{2}$ के बराबर है। अगर उसके पास बचत में कुल 30,000 रुपये हैं, तो उसने PPF में कितनी बचत की है?

Options :

1. ✔ 18000
2. ✖ 15000

3. ✖ 21000

4. ✖ 19500

Question Number : 90 Question Id : 54592734834 Question Type : MCQ Option Shuffling : Yes

Correct Marks : 1 Wrong Marks : 0.25

X gets in the elevator on the 11th floor of a building and goes up at the rate of 38 floors per minute. At the same time, Y gets in an elevator on the 51st floor of the same building and goes down at the rate of 42 floors per minute. If they continue travelling at these rates, then at which floor will their paths cross?

Options :

1. ✖ 24

2. ✖ 26

3. ✖ 28

4. ✔ 30

Question Number : 90 Question Id : 54592734834 Question Type : MCQ Option Shuffling : Yes

Correct Marks : 1 Wrong Marks : 0.25

X इमारत की 11 वीं मंजिल पर लिफ्ट में चढ़ता है और प्रति मिनट 38 मंजिलों की दर से ऊपर जाता है। उसी समय, Y उसी इमारत की 51 वीं मंजिल पर लिफ्ट में चढ़ता है और प्रति मिनट 42 मंजिलों की दर से नीचे जाता है। यदि वे इसी दर पर यात्रा करना जारी रखते हैं, तो किस मंजिल पर उनके रास्ते पार होंगे?

Options :

1. ✖ 24

2. ✖ 26

3. ✖ 28

4. ✔ 30

Question Number : 91 Question Id : 54592734835 Question Type : MCQ Option Shuffling : Yes

Correct Marks : 1 Wrong Marks : 0.25

What is the effective discount for 2 successive discounts of 40 percent and 10 percent?

Options :

1. ✓ 46 percent
2. ✗ 48 percent
3. ✗ 50 percent
4. ✗ 44 percent

Question Number : 91 Question Id : 54592734835 Question Type : MCQ Option Shuffling : Yes

Correct Marks : 1 Wrong Marks : 0.25

40 प्रतिशत और 10 प्रतिशत के 2 क्रमिक छूट के लिए प्रभावी छूट क्या है?

Options :

1. ✓ 46 प्रतिशत
2. ✗ 48 प्रतिशत
3. ✗ 50 प्रतिशत
4. ✗ 44 प्रतिशत

Question Number : 92 Question Id : 54592734836 Question Type : MCQ Option Shuffling : Yes

Correct Marks : 1 Wrong Marks : 0.25

The average cost of 2 bananas and 3 apples is Rs. 72 and the average cost of 4 bananas and 3 apples is Rs. 90. Find the total cost of 18 bananas and 18 apples.

Options :

1. ✗ Rs. 2790
2. ✗ Rs. 2850
3. ✗ Rs. 2910
4. ✓ Rs. 2970

Question Number : 92 Question Id : 54592734836 Question Type : MCQ Option Shuffling : Yes

Correct Marks : 1 Wrong Marks : 0.25

2 केले और 3 सेब की औसत लागत 72 रुपये है और 4 केले और 3 सेब की औसत लागत 90 रुपये है। 18 केले और 18 सेब की कुल लागत ज्ञात करें।

Options :

1. ✖ 2790 रुपए

2. ✖ 2850 रुपए

3. ✖ 2910 रुपए

4. ✔ 2970 रुपए

Question Number : 93 Question Id : 54592734837 Question Type : MCQ Option Shuffling : Yes

Correct Marks : 1 Wrong Marks : 0.25

A car owner buys petrol at Rs. 8, Rs. 10 and Rs. 40 per litre for 3 consecutive years. What approximately is the average cost per litre of petrol if he spends Rs. 40000 each year?

Options :

1. ✔ Rs. 12

2. ✖ Rs. 12.5

3. ✖ Rs. 15

4. ✖ Rs. 18

Question Number : 93 Question Id : 54592734837 Question Type : MCQ Option Shuffling : Yes

Correct Marks : 1 Wrong Marks : 0.25

एक कार मालिक लगातार 3 वर्षों के लिए 8 रुपये, 10 रुपये और 40 रुपये प्रति लीटर के हिसाब से पेट्रोल खरीदता है। अगर वह हर वर्ष 40,000 रुपये खर्च करता है, तो पेट्रोल की प्रति लीटर औसत लागत लगभग कितनी है?

Options :

1. ✔ 12 रुपये

2. * 12.5 रुपये

3. * 15 रुपये

4. * 18 रुपये

Question Number : 94 Question Id : 54592734838 Question Type : MCQ Option Shuffling : Yes
Correct Marks : 1 Wrong Marks : 0.25

There was an overall drop of 40 percent in the price of a product. The initial decrease in the price was to Rs. 80 from Rs. 100. What was another decrease so as to show the overall drop?

Options :

1. * 20 percent

2. ✓ 25 percent

3. * 30 percent

4. * 12.50 percent

Question Number : 94 Question Id : 54592734838 Question Type : MCQ Option Shuffling : Yes
Correct Marks : 1 Wrong Marks : 0.25

एक उत्पाद की कीमत में कुल 40 प्रतिशत की गिरावट थी। कीमत में प्रारंभिक कमी 80 रुपये से 100 रुपये थी। कुल गिरावट दिखाने के लिए एक और कमी क्या थी?

Options :

1. * 20 प्रतिशत

2. ✓ 25 प्रतिशत

3. * 30 प्रतिशत

4. * 12.50 प्रतिशत

Question Number : 95 Question Id : 54592734839 Question Type : MCQ Option Shuffling : Yes
Correct Marks : 1 Wrong Marks : 0.25

X scored 48 percent marks in a test and failed by 14 marks. Had he scored 53 percent in the same test, he would have passed by 21 marks. What is the passing marks of that test?

Options :

1. ✖ 315
2. ✔ 350
3. ✖ 385
4. ✖ 420

Question Number : 95 Question Id : 54592734839 Question Type : MCQ Option Shuffling : Yes

Correct Marks : 1 Wrong Marks : 0.25

X ने परीक्षा में 48 प्रतिशत अंक प्राप्त किए और 14 अंकों से असफल रहा। यदि उसने उसी परीक्षा में 53 प्रतिशत अंक हासिल किए होते, तो वह 21 अंकों से पास हो जाता। उस परीक्षा में उत्तीर्ण अंक क्या है?

Options :

1. ✖ 315
2. ✔ 350
3. ✖ 385
4. ✖ 420

Question Number : 96 Question Id : 54592734840 Question Type : MCQ Option Shuffling : Yes

Correct Marks : 1 Wrong Marks : 0.25

The radius of a right circular cylinder is increased by 10 percent and the height is decreased by 20 percent. What is percentage change in the volume of the cylinder?

Options :

1. ✔ 3.2 percent decrease
2. ✖ 3.2 percent increase
3. ✖ 21 percent increase

4. * 21 percent decrease

Question Number : 96 Question Id : 54592734840 Question Type : MCQ Option Shuffling : Yes
Correct Marks : 1 Wrong Marks : 0.25

एक समकोण गोलाकार सिलेंडर की त्रिज्या 10 प्रतिशत से बढ़ जाती है और ऊँचाई 20 प्रतिशत से कम हो जाती है। सिलेंडर के आयतन में कितने प्रतिशत परिवर्तन है?

Options :

1. ✓ 3.2 प्रतिशत घटाव
2. * 3.2 प्रतिशत बढ़ाव
3. * 21 प्रतिशत बढ़ाव
4. * 21 प्रतिशत घटाव

Question Number : 97 Question Id : 54592734841 Question Type : MCQ Option Shuffling : Yes
Correct Marks : 1 Wrong Marks : 0.25

An article was sold for Rs. 4000. Had a discount of 10 percent was being offered, the profit would have been 20 percent, find the cost price.

Options :

1. ✓ Rs. 3000
2. * Rs. 3200
3. * Rs. 3310
4. * Rs. 3600

Question Number : 97 Question Id : 54592734841 Question Type : MCQ Option Shuffling : Yes
Correct Marks : 1 Wrong Marks : 0.25

एक वस्तु को 4000 रुपये में बेचा गया था। 10 प्रतिशत की छूट दी जा रही थी, लाभ 20 प्रतिशत होगा, लागत मूल्य ज्ञात करें।

Options :

1. ✓ 3000 रुपये

2. * 3200 रुपये

3. * 3310 रुपये

4. * 3600 रुपये

Question Number : 98 Question Id : 54592734842 Question Type : MCQ Option Shuffling : Yes
Correct Marks : 1 Wrong Marks : 0.25

If the selling price is tripled, the profit goes upto 5 times. Find the profit percent.

Options :

1. * 50 percent

2. ✓ 100 percent

3. * 150 percent

4. * 200 percent

Question Number : 98 Question Id : 54592734842 Question Type : MCQ Option Shuffling : Yes
Correct Marks : 1 Wrong Marks : 0.25

यदि बिक्री मूल्य तीन गुना है, तो लाभ 5 गुना हो जाता है। लाभ प्रतिशत ज्ञात करें।

Options :

1. * 50 प्रतिशत

2. ✓ 100 प्रतिशत

3. * 150 प्रतिशत

4. * 200 प्रतिशत

Question Number : 99 Question Id : 54592734843 Question Type : MCQ Option Shuffling : Yes
Correct Marks : 1 Wrong Marks : 0.25

The percentage of profit earned by selling an article for Rs. 1800 is equal to the percentage of loss incurred by selling the same article for Rs. 1200. At what price should the article be sold to make 50 percent profit?

Options :

1. ✓ Rs. 2250
2. ✗ Rs. 2400
3. ✗ Rs. 2700
4. ✗ Rs. 1800

Question Number : 99 Question Id : 54592734843 Question Type : MCQ Option Shuffling : Yes
Correct Marks : 1 Wrong Marks : 0.25

1800 रुपये में एक वस्तु को बेचकर मिले लाभ का प्रतिशत उसी वस्तु को 1200 रुपये में बेचने से होने वाले नुकसान के प्रतिशत के बराबर है।

50 प्रतिशत लाभ मिलने के लिए वस्तु को किस कीमत पर बेचा जाना चाहिए?

Options :

1. ✓ 2250 रुपये
2. ✗ 2400 रुपये
3. ✗ 2700 रुपये
4. ✗ 1800 रुपये

Question Number : 100 Question Id : 54592734844 Question Type : MCQ Option Shuffling : Yes
Correct Marks : 1 Wrong Marks : 0.25

F and G together have Rs. 3500, if $\frac{4}{5}$ of F's amount is equal to $\frac{8}{15}$ of G's amount, then how much does G have?

Options :

1. ✗ Rs. 1800
2. ✗ Rs. 1950
3. ✓ Rs. 2100
4. ✗ Rs. 2250

Question Number : 100 Question Id : 54592734844 Question Type : MCQ Option Shuffling : Yes
Correct Marks : 1 Wrong Marks : 0.25

F और G के पास मिला कर रुपये 3500 है, यदि F के $\frac{4}{5}$ की राशि G की $\frac{8}{15}$ राशि के बराबर है, तो G के पास कितनी राशि है?

Options :

1. ✘ 1800 रुपए
2. ✘ 1950 रुपए
3. ✔ 2100 रुपए
4. ✘ 2250 रुपए

Arithmetic Ability2

| | |
|---|------------|
| Group Number : | 6 |
| Group Id : | 5459271726 |
| Group Maximum Duration : | 0 |
| Group Minimum Duration : | 0 |
| Show Attended Group? : | No |
| Edit Attended Group? : | No |
| Break time: | 0 |
| Group Marks: | 20 |
| Is this Group for Examiner?: | No |
| Revisit allowed for group Instructions? : | Yes |
| Maximum Instruction Time: | 0 |
| Minimum Instruction Time: | 0 |

Arithmetic Ability2

| | |
|--------------------------------------|------------|
| Section Id : | 5459271726 |
| Section Number : | 1 |
| Section type : | Online |
| Mandatory or Optional: | Mandatory |
| Number of Questions: | 20 |
| Number of Questions to be attempted: | 20 |
| Section Marks: | 20 |

| | |
|------------------------------|------------|
| Sub-Section Number: | 1 |
| Sub-Section Id: | 5459272070 |
| Question Shuffling Allowed : | Yes |

Question Number : 101 Question Id : 54592734845 Question Type : MCQ Option Shuffling : Yes
Correct Marks : 1 Wrong Marks : 0.25

If 15 apples cost as much as 6 strawberries, 2 strawberries cost as much as 16 bananas, 6 bananas cost as much as 15 potatoes, then what is the cost of 1 potato if an apple costs Rs. 200?

Options :

1. ✖ Rs. 250
2. ✔ Rs. 25
3. ✖ Rs. 22.5
4. ✖ Rs. 225

Question Number : 101 Question Id : 54592734845 Question Type : MCQ Option Shuffling : Yes

Correct Marks : 1 Wrong Marks : 0.25

यदि 15 सेब की कीमत 6 स्ट्रॉबेरी के बराबर है, 2 स्ट्रॉबेरी की कीमत 16 केलों के बराबर है, 6 केलों की कीमत 15 आलू बराबर है, तो 1 आलू की कीमत क्या है यदि एक सेब की कीमत 200 रुपये है?

Options :

1. ✖ 250 रुपये
2. ✔ 25 रुपये
3. ✖ 22.5 रुपये
4. ✖ 225 रुपये

Question Number : 102 Question Id : 54592734846 Question Type : MCQ Option Shuffling : Yes

Correct Marks : 1 Wrong Marks : 0.25

If $A : B = 3 : 4$, $B : C = 2 : 3$ and $C : D = 5 : 6$, then what is the value of $A : B : C : D$?

Options :

1. ✔ 15 : 20 : 30 : 36
2. ✖ 15 : 20 : 30 : 33
3. ✖ 18 : 20 : 30 : 36

4. ✖ 18 : 20 : 30 : 33

Question Number : 102 Question Id : 54592734846 Question Type : MCQ Option Shuffling : Yes

Correct Marks : 1 Wrong Marks : 0.25

यदि $A : B = 3 : 4$, $B : C = 2 : 3$ और $C : D = 5 : 6$ है, तो $A : B : C : D$ का मूल्य क्या है?

Options :

1. ✔ 15 : 20 : 30 : 36

2. ✖ 15 : 20 : 30 : 33

3. ✖ 18 : 20 : 30 : 36

4. ✖ 18 : 20 : 30 : 33

Question Number : 103 Question Id : 54592734847 Question Type : MCQ Option Shuffling : Yes

Correct Marks : 1 Wrong Marks : 0.25

A sum of Rs. 12,000 amounts to Rs. 14,400 in 4 years at the rate of simple interest. What is the rate of interest?

Options :

1. ✖ 4 percent

2. ✖ 4.33 percent

3. ✖ 4.67 percent

4. ✔ 5 percent

Question Number : 103 Question Id : 54592734847 Question Type : MCQ Option Shuffling : Yes

Correct Marks : 1 Wrong Marks : 0.25

साधारण ब्याज की दर से 4 वर्षों में 12,000 रुपये की राशि 14,400 रुपये हुई है। ब्याज दर क्या है?

Options :

1. ✖ 4 प्रतिशत

2. ✖ 4.33 प्रतिशत

3. ✖ 4.67 प्रतिशत

4. ✓ 5 प्रतिशत

Question Number : 104 Question Id : 54592734848 Question Type : MCQ Option Shuffling : Yes
Correct Marks : 1 Wrong Marks : 0.25

At what rate of compound interest per annum will a sum of Rs. 12,000 become Rs. 13,230 in 2 years?

Options :

1. ✓ 5 percent
2. ✗ 4.50 percent
3. ✗ 6 percent
4. ✗ 5.50 percent

Question Number : 104 Question Id : 54592734848 Question Type : MCQ Option Shuffling : Yes
Correct Marks : 1 Wrong Marks : 0.25

2 वर्ष में कितने प्रति वर्ष चक्रवृद्धि ब्याज की दर पर 12,000 रुपये से 13,230 रुपये हो जायेंगे?

Options :

1. ✓ 5 प्रतिशत
2. ✗ 4.50 प्रतिशत
3. ✗ 6 प्रतिशत
4. ✗ 5.50 प्रतिशत

Question Number : 105 Question Id : 54592734849 Question Type : MCQ Option Shuffling : Yes
Correct Marks : 1 Wrong Marks : 0.25

The compound interest on a certain sum for 2 years at 10 percent is Rs. 1680. What will be the simple interest on the same sum for double the time and at half the rate percent per annum?

Options :

1. ✗ Rs. 1200
2. ✓ Rs. 1600

3. * Rs. 1500

4. * Rs. 1800

Question Number : 105 Question Id : 54592734849 Question Type : MCQ Option Shuffling : Yes

Correct Marks : 1 Wrong Marks : 0.25

2 वर्षों के लिए 10 प्रतिशत पर एक निश्चित राशि पर चक्रवृद्धि ब्याज 1680 रुपये है। समान योग पर दोगुना समय और आधी दर प्रतिवर्ष की दर से साधारण ब्याज क्या होगा?

Options :

1. * 1200 रुपये

2. ✓ 1600 रुपये

3. * 1500 रुपये

4. * 1800 रुपये

Question Number : 106 Question Id : 54592734850 Question Type : MCQ Option Shuffling : Yes

Correct Marks : 1 Wrong Marks : 0.25

The ratio of speeds of two cars is 10 : 11. If the first car travels a distance of 500 kms in 10 hours, what is the speed of the second car?

Options :

1. * 44 km/h

2. ✓ 55 km/h

3. * 66 km/h

4. * 77 km/h

Question Number : 106 Question Id : 54592734850 Question Type : MCQ Option Shuffling : Yes

Correct Marks : 1 Wrong Marks : 0.25

दो कारों की गति का अनुपात 10 : 11 है। यदि पहली कार 10 घंटे में 500 km की दूरी तय करती है, तो दूसरी कार की गति क्या है?

Options :

1. ✖ 44 km/h

2. ✔ 55 km/h

3. ✖ 66 km/h

4. ✖ 77 km/h

Question Number : 107 Question Id : 54592734851 Question Type : MCQ Option Shuffling : Yes

Correct Marks : 1 Wrong Marks : 0.25

A man on a tour travels the first 120 km at 60 km/h, the next 320 km at 80 km/h and the last 80 km at 40 km/h. What is the average speed of the journey?

Options :

1. ✔ 65 km/h

2. ✖ 70 km/h

3. ✖ 72 km/h

4. ✖ 64 km/h

Question Number : 107 Question Id : 54592734851 Question Type : MCQ Option Shuffling : Yes

Correct Marks : 1 Wrong Marks : 0.25

एक व्यक्ति दौरे पर पहले 120 km की दूरी 60 km/h, अगले 320 km की दूरी पर 80 km/h और अंतिम 80km की दूरी 40 km/h पर यात्रा करता है। यात्रा की औसत गति क्या है?

Options :

1. ✔ 65 km/h

2. ✖ 70 km/h

3. ✖ 72 km/h

4. ✖ 64 km/h

Question Number : 108 Question Id : 54592734852 Question Type : MCQ Option Shuffling : Yes

Correct Marks : 1 Wrong Marks : 0.25

A man travelled a distance of 89 km in 13 hours. He travelled partly by foot at 5 km/h and partly by bicycle at 8 km/h. What is the distance travelled on foot?

Options :

1. ✓ 25 km
2. ✗ 20 km
3. ✗ 35 km
4. ✗ 30 km

Question Number : 108 Question Id : 54592734852 Question Type : MCQ Option Shuffling : Yes

Correct Marks : 1 Wrong Marks : 0.25

एक व्यक्ति ने 13 घंटे में 89 Km की दूरी तय की। उसने आंशिक रूप से पैदल 5 km/h में और आंशिक रूप से साइकिल पर 8km/h से यात्रा की। पैदल यात्रा तय की गई दूरी कितनी है?

Options :

1. ✓ 25 km
2. ✗ 20 km
3. ✗ 35 km
4. ✗ 30 km

Question Number : 109 Question Id : 54592734853 Question Type : MCQ Option Shuffling : Yes

Correct Marks : 1 Wrong Marks : 0.25

A can finish a work in 18 days and B can do the same work in 15 days. B worked for 10 days alone and left the job. In how many days, A alone can finish the remaining work?

Options :

1. ✗ 3
2. ✗ 4
3. ✗ 5

4. ✓ 6

Question Number : 109 Question Id : 54592734853 Question Type : MCQ Option Shuffling : Yes
Correct Marks : 1 Wrong Marks : 0.25

A काम को 18 दिनों में पूरा कर सकता है और B वही काम 15 दिनों में कर सकता है। B ने अकेले 10 दिनों तक काम किया और नौकरी छोड़ दी। कितने दिनों में, A अकेला शेष कार्य पूरा कर सकता है?

Options :

1. ✗ 3

2. ✗ 4

3. ✗ 5

4. ✓ 6

Question Number : 110 Question Id : 54592734854 Question Type : MCQ Option Shuffling : Yes
Correct Marks : 1 Wrong Marks : 0.25

A is twice as efficient as B who is thrice as efficient as C. If C alone can do a work in 30 days, in how many days can they together do the work?

Options :

1. ✓ 3

2. ✗ 4

3. ✗ 5

4. ✗ 6

Question Number : 110 Question Id : 54592734854 Question Type : MCQ Option Shuffling : Yes
Correct Marks : 1 Wrong Marks : 0.25

A, B से दोगुना कुशल है जो C से तीन गुना कुशल है। यदि C अकेले 30 दिनों में एक काम कर सकता है, तो वे कितने दिनों में एक साथ काम कर सकते हैं?

Options :

1. ✓ 3

2. ✗ 4

3. ✗ 5

4. ✗ 6

Question Number : 111 Question Id : 54592734855 Question Type : MCQ Option Shuffling : Yes

Correct Marks : 1 Wrong Marks : 0.25

A can do a work in 20 days while B can do it in 80 days. After working together for 8 days, both of them stop working. C resumes the work and finishes it. If C can do the whole work alone in 12 days, then how many days he would have taken to finish the work?

Options :

1. ✓ 6

2. ✗ 12

3. ✗ 9

4. ✗ 8

Question Number : 111 Question Id : 54592734855 Question Type : MCQ Option Shuffling : Yes

Correct Marks : 1 Wrong Marks : 0.25

A एक कार्य को 20 दिनों में कर सकता है जबकि B उसे 80 दिनों में कर सकता है। 8 दिनों तक एक साथ काम करने के बाद, दोनों ने काम करना बंद कर दिया। फिर C काम को शुरू करता है और उसे पूरा करता है। यदि C पूरे काम को 12 दिनों में अकेले कर सकता है, तो काम पूरा करने में उसे कितने दिन लगेंगे?

Options :

1. ✓ 6

2. ✗ 12

3. ✖ 9

4. ✖ 8

Question Number : 112 Question Id : 54592734856 Question Type : MCQ Option Shuffling : Yes

Correct Marks : 1 Wrong Marks : 0.25

If the radius and height of a cone measure 7 cm and 24 cm respectively, then find the lateral surface area of the cone?

Options :

1. ✔ 550 sq cm

2. ✖ 770 sq cm

3. ✖ 630 sq cm

4. ✖ 660 sq cm

Question Number : 112 Question Id : 54592734856 Question Type : MCQ Option Shuffling : Yes

Correct Marks : 1 Wrong Marks : 0.25

यदि शंकु की त्रिज्या और ऊँचाई का माप क्रमशः 7 cm और 24 cm हैं, तो शंकु के पार्श्व सतह क्षेत्र को ज्ञात करें?

Options :

1. ✔ 550 sq cm

2. ✖ 770 sq cm

3. ✖ 630 sq cm

4. ✖ 660 sq cm

Question Number : 113 Question Id : 54592734857 Question Type : MCQ Option Shuffling : Yes

Correct Marks : 1 Wrong Marks : 0.25

The ratio of the length and breadth of a rectangle is 5 : 6 and its area is 6750 cm^2 . Find the ratio of the length to the area of the rectangle.

Options :

1. ✖ 1 : 80

2. ✖ 1 : 84

3. ✖ 1 : 100

4. ✔ 1 : 90

Question Number : 113 Question Id : 54592734857 Question Type : MCQ Option Shuffling : Yes
Correct Marks : 1 Wrong Marks : 0.25

एक आयत की लंबाई और चौड़ाई का अनुपात 5 : 6 है और इसका क्षेत्रफल 6750 cm^2 है। आयत के क्षेत्रफल की लंबाई का अनुपात ज्ञात करें।

Options :

1. ✖ 1 : 80

2. ✖ 1 : 84

3. ✖ 1 : 100

4. ✔ 1 : 90

Question Number : 114 Question Id : 54592734858 Question Type : MCQ Option Shuffling : Yes
Correct Marks : 1 Wrong Marks : 0.25

A cube whose diagonal is $27\sqrt{3}$ cms is melted and made into a cuboid, its length and breadth measure 81 cm and 243 cm respectively. Find the height of the cuboid.

Options :

1. ✔ 1 cm

2. ✖ 1.5 cm

3. ✖ 2 cm

4. ✖ 2.5 cm

Question Number : 114 Question Id : 54592734858 Question Type : MCQ Option Shuffling : Yes
Correct Marks : 1 Wrong Marks : 0.25

एक घन जिसका विकर्ण $27\sqrt{3}$ cm है उसे पिघलाया गया और घनाभ बनाया गया, जिसकी लंबाई और चौड़ाई क्रमशः 81 cm और 243 cm है। घनाभ की ऊँचाई ज्ञात करें।

Options :

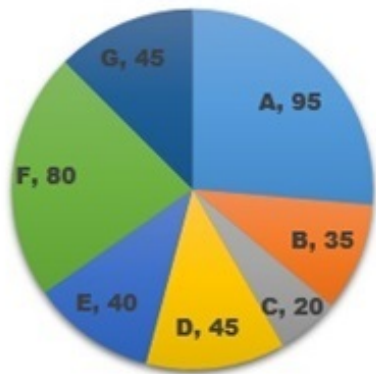
1. ✓ 1 cm
2. ✗ 1.5 cm
3. ✗ 2 cm
4. ✗ 2.5 cm

Question Number : 115 Question Id : 54592734859 Question Type : MCQ Option Shuffling : Yes

Correct Marks : 1 Wrong Marks : 0.25

The pie chart shows the proportionate population of 7 villages. If the difference between the population of villages D and E is 1500, then what is total population of the 7 villages?

Population of Villages



Options :

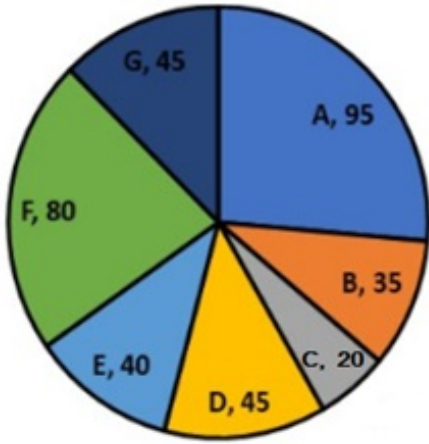
1. ✗ 84000
2. ✗ 96000
3. ✗ 72000
4. ✓ 108000

Question Number : 115 Question Id : 54592734859 Question Type : MCQ Option Shuffling : Yes

Correct Marks : 1 Wrong Marks : 0.25

पाइ चार्ट 7 गांवों की आनुपातिक आबादी को दर्शाता है। यदि D और E गांवों की आबादी का अंतर 1500 है, तो 7 गांवों की कुल जनसंख्या कितनी है?

गांवों की आबादी

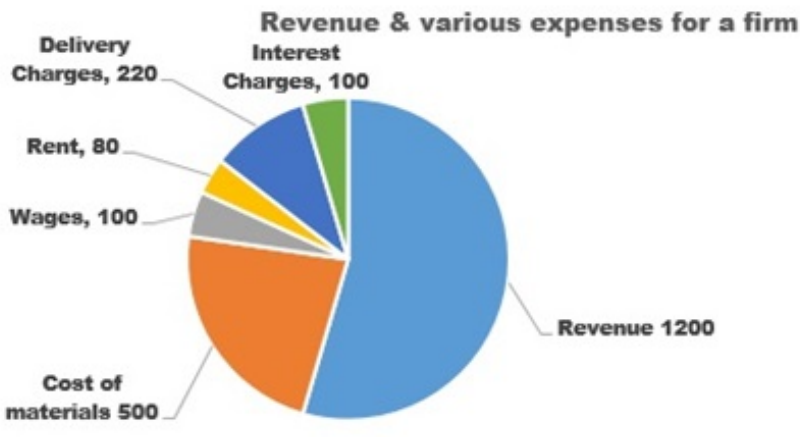


Options :

1. ✘ 84000
2. ✘ 96000
3. ✘ 72000
4. ✔ 108000

Question Number : 116 Question Id : 54592734860 Question Type : MCQ Option Shuffling : Yes
Correct Marks : 1 Wrong Marks : 0.25

The pie chart shows the revenue and various expenses for a firm for the year 2018. What is the profit margin?



Options :

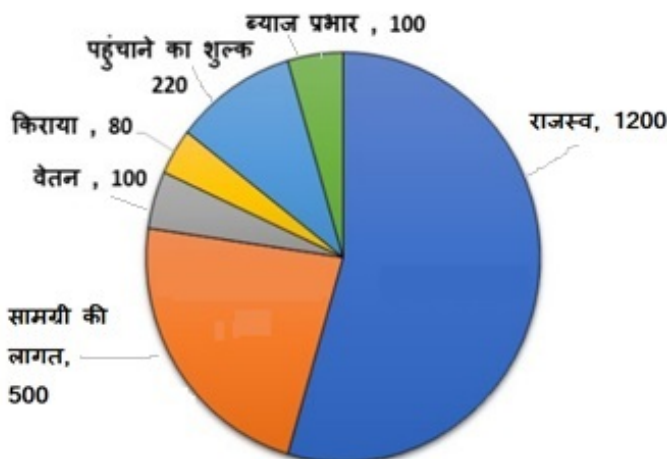
- ✘ 15 percent
- ✔ 16.67 percent
- ✘ 18.33 percent
- ✘ 20 percent

Question Number : 116 Question Id : 54592734860 Question Type : MCQ Option Shuffling : Yes

Correct Marks : 1 Wrong Marks : 0.25

पाइ चार्ट वर्ष 2018 के लिए फर्म के राजस्व और विभिन्न खर्चों को दर्शाता है। लाभ मार्जिन क्या है?

एक फर्म के लिए राजस्व और विभिन्न खर्च



Options :

1. ✖ 15 प्रतिशत

2. ✔ 16.67 प्रतिशत

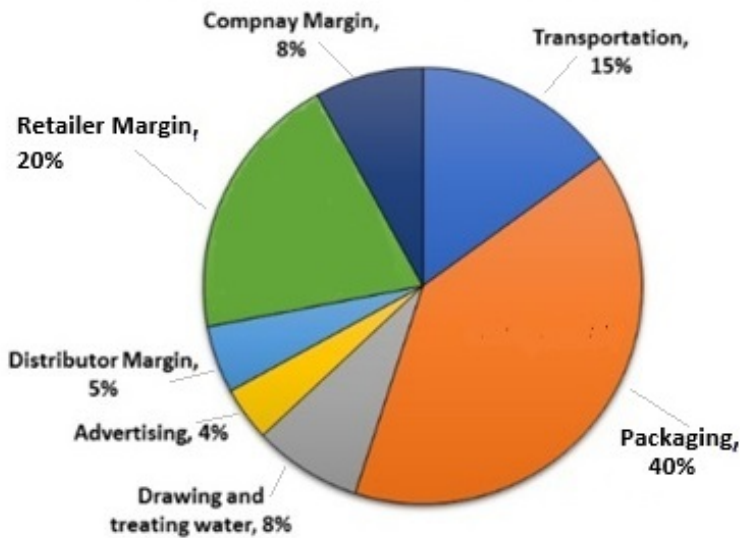
3. ✖ 18.33 प्रतिशत

4. ✖ 20 प्रतिशत

Question Number : 117 Question Id : 54592734861 Question Type : MCQ Option Shuffling : Yes
Correct Marks : 1 Wrong Marks : 0.25

The pie chart shows the distribution of costs of making a soft drink. If the company pays Rs. 24,000 for transporting 1200 bottles, what is the packaging cost of 15 bottles of the drink?

Distribution of costs of making a soft drink



Options :

1. ✖ 600

2. ✖ 640

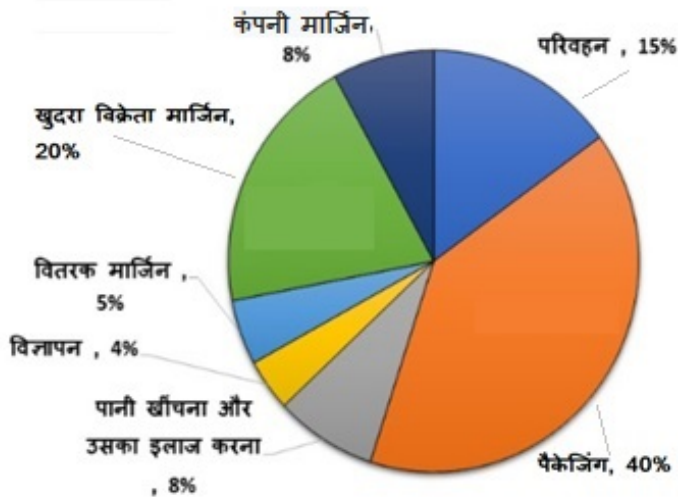
3. ✖ 720

4. ✔ 800

Question Number : 117 Question Id : 54592734861 Question Type : MCQ Option Shuffling : Yes
Correct Marks : 1 Wrong Marks : 0.25

पाइ चार्ट एक शीतल पेय बनाने की लागतों के वितरण को दर्शाता है। यदि कंपनी 1200 बोतलों के परिवहन के लिए 24,000 रुपये का भुगतान करती है, तो पेय की 15 बोतलों की पैकेजिंग लागत क्या है?

शीतल पेय बनाने की लागतों का वितरण



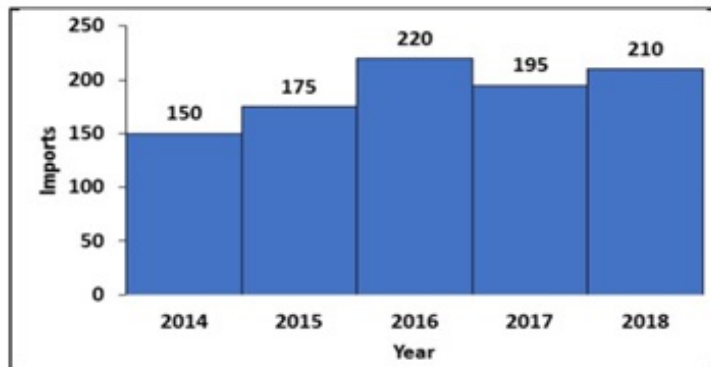
Options :

1. ✘ 600
2. ✘ 640
3. ✘ 720
4. ✔ 800

Question Number : 118 Question Id : 54592734862 Question Type : MCQ Option Shuffling : Yes

Correct Marks : 1 Wrong Marks : 0.25

The following histogram shows the quantity (in million kg) imported by India from 2014-2018. For how many years is the quantity imported higher than the average quantity imported across all years?

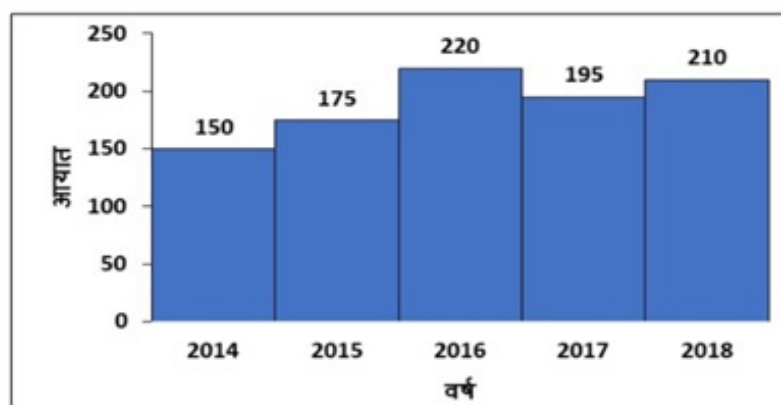


Options :

1. ✖ 2
2. ✔ 3
3. ✖ 4
4. ✖ 1

Question Number : 118 Question Id : 54592734862 Question Type : MCQ Option Shuffling : Yes
Correct Marks : 1 Wrong Marks : 0.25

निम्नलिखित आयतचित्र 2014-2018 से भारत द्वारा आयातित मात्रा (मिलियन kg में) को दर्शाता है। कितने वर्षों के लिए आयात की गई मात्रा सभी वर्षों में आयात की गई औसत मात्रा से अधिक है?



Options :

1. ✖ 2

2. ✔ 3

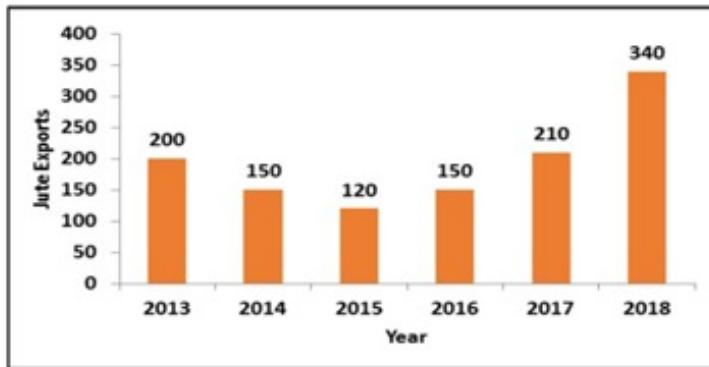
3. ✖ 4

4. ✖ 1

Question Number : 119 Question Id : 54592734863 Question Type : MCQ Option Shuffling : Yes

Correct Marks : 1 Wrong Marks : 0.25

The following bar chart shows the quantity (in million kg) of jute exported by India from 2013-2018. For how many years is the quantity exported higher than the average quantity exported across all years?



Options :

1. ✔ 3

2. ✖ 4

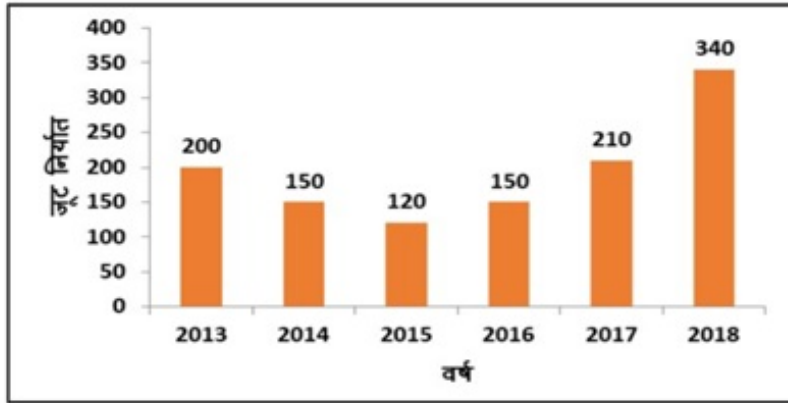
3. ✖ 5

4. ✖ 2

Question Number : 119 Question Id : 54592734863 Question Type : MCQ Option Shuffling : Yes

Correct Marks : 1 Wrong Marks : 0.25

निम्न बार चार्ट 2013-2018 में भारत द्वारा निर्यात की गई जूट की मात्रा (मिलियन kg में) को दर्शाता है। कितने वर्षों के लिए निर्यात की गई मात्रा सभी वर्षों में निर्यात की गई औसत मात्रा से अधिक है?

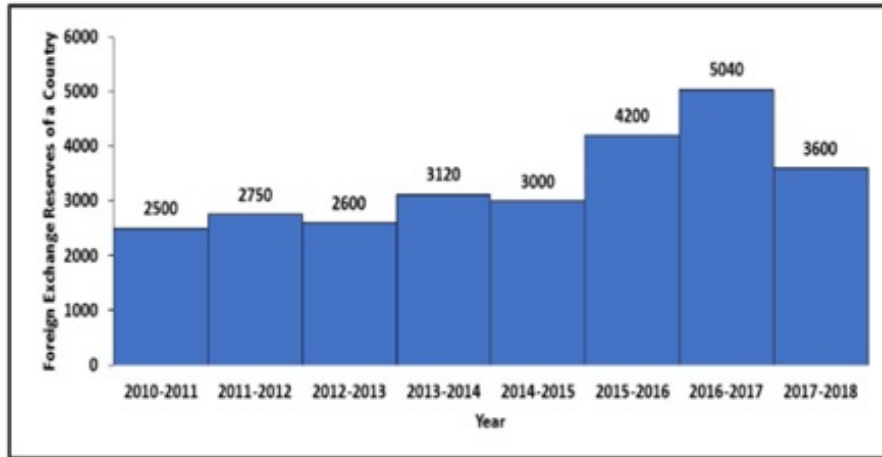


Options :

1. ✓ 3
2. ✗ 4
3. ✗ 5
4. ✗ 2

Question Number : 120 Question Id : 54592734864 Question Type : MCQ Option Shuffling : Yes
Correct Marks : 1 Wrong Marks : 0.25

The histogram shows the foreign exchange reserves of a country (in \$ US million) from 2010-2011 to 2017-2018. For which year, the percent increase of foreign exchange reserves over the previous year, is the highest?



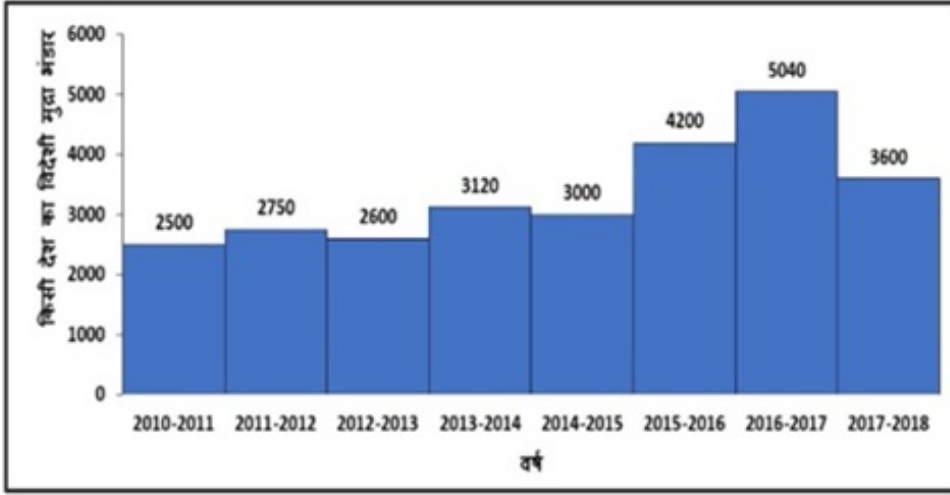
Options :

1. ✘ 2011-2012
2. ✘ 2013-2014
3. ✔ 2015-2016
4. ✘ 2016-2017

Question Number : 120 Question Id : 54592734864 Question Type : MCQ Option Shuffling : Yes

Correct Marks : 1 Wrong Marks : 0.25

आयतचित्र 2010-2011 से 2017-2018 तक एक देश (\$ US मिलियन में) के विदेशी मुद्रा भंडार को दर्शाता है। किस वर्ष के लिए, पिछले वर्ष की तुलना में विदेशी मुद्रा भंडार की प्रतिशत वृद्धि सबसे अधिक है?



Options :

1. ✘ 2011-2012
2. ✘ 2013-2014
3. ✔ 2015-2016
4. ✘ 2016-2017

General English1

| | |
|---|------------|
| Group Number : | 7 |
| Group Id : | 5459271727 |
| Group Maximum Duration : | 0 |
| Group Minimum Duration : | 0 |
| Show Attended Group? : | No |
| Edit Attended Group? : | No |
| Break time: | 0 |
| Group Marks: | 20 |
| Is this Group for Examiner? : | No |
| Revisit allowed for group Instructions? : | Yes |
| Maximum Instruction Time: | 0 |
| Minimum Instruction Time: | 0 |

General English1

| | |
|--------------------------------------|------------|
| Section Id : | 5459271727 |
| Section Number : | 1 |
| Section type : | Online |
| Mandatory or Optional: | Mandatory |
| Number of Questions: | 20 |
| Number of Questions to be attempted: | 20 |
| Section Marks: | 20 |

| | |
|------------------------------|------------|
| Sub-Section Number: | 1 |
| Sub-Section Id: | 5459272071 |
| Question Shuffling Allowed : | Yes |

Question Number : 121 Question Id : 54592734865 Question Type : MCQ Option Shuffling : Yes
Correct Marks : 1 Wrong Marks : 0.25

The sentence below has been divided into three parts. Select the part of the sentence that has an error. If the sentence has no error, select the option 'No Error'.

Vinod thought / if he could pulled / the chain and stop the train.

Options :

1. ✖ Vinod thought
2. ✔ if he could pulled
3. ✖ the chain and stop the train.
4. ✖ No Error

Question Number : 121 Question Id : 54592734865 Question Type : MCQ Option Shuffling : Yes
Correct Marks : 1 Wrong Marks : 0.25

The sentence below has been divided into three parts. Select the part of the sentence that has an error. If the sentence has no error, select the option 'No Error'.

Vinod thought / if he could pulled / the chain and stop the train.

Options :

1. ✖ Vinod thought
2. ✔ if he could pulled
3. ✖ the chain and stop the train.
4. ✖ No Error

Question Number : 122 Question Id : 54592734866 Question Type : MCQ Option Shuffling : Yes
Correct Marks : 1 Wrong Marks : 0.25

The sentence below has been divided into three parts. Select the part of the sentence that has an error. If the sentence has no error, select the option 'No Error'.

Babulal lost / his security deposit / in the last elections.

Options :

1. ✖ Babulal lost
2. ✖ his security deposit
3. ✖ in the last elections.
4. ✔ No Error

Question Number : 122 Question Id : 54592734866 Question Type : MCQ Option Shuffling : Yes
Correct Marks : 1 Wrong Marks : 0.25

The sentence below has been divided into three parts. Select the part of the sentence that has an error. If the sentence has no error, select the option 'No Error'.

Babulal lost / his security deposit / in the last elections.

Options :

1. ✖ Babulal lost
2. ✖ his security deposit
3. ✖ in the last elections.
4. ✔ No Error

Question Number : 123 Question Id : 54592734867 Question Type : MCQ Option Shuffling : Yes

Correct Marks : 1 Wrong Marks : 0.25

The sentence below has been divided into three parts. Select the part of the sentence that has an error. If the sentence has no error, select the option 'No Error'.

The opposition leaders / unanimously decided to / walk out from the House.

Options :

1. ✖ The opposition leaders
2. ✖ unanimously decided to
3. ✖ walk out from the House.
4. ✔ No Error

Question Number : 123 Question Id : 54592734867 Question Type : MCQ Option Shuffling : Yes

Correct Marks : 1 Wrong Marks : 0.25

The sentence below has been divided into three parts. Select the part of the sentence that has an error. If the sentence has no error, select the option 'No Error'.

The opposition leaders. / unanimously decided to / walk out from the House.

Options :

1. ✖ The opposition leader.
2. ✖ unanimously decided to
3. ✖ walk out from the House.
4. ✔ No Error

Question Number : 124 Question Id : 54592734868 Question Type : MCQ Option Shuffling : Yes
Correct Marks : 1 Wrong Marks : 0.25

The sentence below has been divided into three parts. Select the part of the sentence that has an error. If the sentence has no error, select the option 'No Error'.

Bharti has two sisters and a brother / both of them / live under one roof.

Options :

1. ✖ Bharti has two sisters and a brother
2. ✔ both of them
3. ✖ live under one roof.
4. ✖ No Error

Question Number : 124 Question Id : 54592734868 Question Type : MCQ Option Shuffling : Yes
Correct Marks : 1 Wrong Marks : 0.25

The sentence below has been divided into three parts. Select the part of the sentence that has an error. If the sentence has no error, select the option 'No Error'.

Bharti has two sisters and a brother / both of them / live under one roof.

Options :

1. ✖ Bharti has two sisters and a brother
2. ✔ both of them
3. ✖ live under one roof.
4. ✖ No Error

Question Number : 125 Question Id : 54592734869 Question Type : MCQ Option Shuffling : Yes
Correct Marks : 1 Wrong Marks : 0.25

The sentence below has been divided into three parts. Select the part of the sentence that has an error. If the sentence has no error, select the option 'No Error'.

The mountains in this region / are very steep / to be conquered.

Options :

1. ✖ The mountains in this region
2. ✔ are very steep
3. ✖ to be conquered.
4. ✖ No Error

Question Number : 125 Question Id : 54592734869 Question Type : MCQ Option Shuffling : Yes
Correct Marks : 1 Wrong Marks : 0.25

The sentence below has been divided into three parts. Select the part of the sentence that has an error. If the sentence has no error, select the option 'No Error'.

The mountains in this region / are very steep / to be conquered.

Options :

1. ✖ The mountains in this region
2. ✔ are very steep
3. ✖ to be conquered.
4. ✖ No Error

Question Number : 126 Question Id : 54592734870 Question Type : MCQ Option Shuffling : Yes
Correct Marks : 1 Wrong Marks : 0.25

Select the word segment that substitutes (replaces) the highlighted word segment correctly and completes the sentence meaningfully.

Please call and let me know when you reach home.

Options :

1. ✖ you will reach home
2. ✖ you reach to home
3. ✖ you have reached to home
4. ✔ No correction required

Question Number : 126 Question Id : 54592734870 Question Type : MCQ Option Shuffling : Yes
Correct Marks : 1 Wrong Marks : 0.25

Select the word segment that substitutes (replaces) the highlighted word segment correctly and completes the sentence meaningfully.

Please call and let me know when **you reach home**.

Options :

1. ✖ you will reach home
2. ✖ you reach to home
3. ✖ you have reached to home
4. ✔ No correction required

Question Number : 127 Question Id : 54592734871 Question Type : MCQ Option Shuffling : Yes

Correct Marks : 1 Wrong Marks : 0.25

Select the word segment that substitutes (replaces) the highlighted word segment correctly and completes the sentence meaningfully.

Alok as well as Arun **are related to Abhay**.

Options :

1. ✔ is related to Abhay
2. ✖ were related to Abhay
3. ✖ related to Abhay
4. ✖ No correction required

Question Number : 127 Question Id : 54592734871 Question Type : MCQ Option Shuffling : Yes

Correct Marks : 1 Wrong Marks : 0.25

Select the word segment that substitutes (replaces) the highlighted word segment correctly and completes the sentence meaningfully.

Alok as well as Arun are related to Abhay.

Options :

1. ✓ is related to Abhay
2. ✗ were related to Abhay
3. ✗ related to Abhay
4. ✗ No correction required

Question Number : 128 Question Id : 54592734872 Question Type : MCQ Option Shuffling : Yes

Correct Marks : 1 Wrong Marks : 0.25

Select the word segment that substitutes (replaces) the highlighted word segment correctly and completes the sentence meaningfully.

Everybody in the hall were praising her performance.

Options :

1. ✗ are praising her performance
2. ✓ was praising her performance
3. ✗ was praised her performance
4. ✗ No correction required

Question Number : 128 Question Id : 54592734872 Question Type : MCQ Option Shuffling : Yes

Correct Marks : 1 Wrong Marks : 0.25

Select the word segment that substitutes (replaces) the highlighted word segment correctly and completes the sentence meaningfully.

Everybody in the hall were praising her performance.

Options :

1. ✖ are praising her performance
2. ✔ was praising her performance
3. ✖ was praised her performance
4. ✖ No correction required

Question Number : 129 Question Id : 54592734873 Question Type : MCQ Option Shuffling : Yes

Correct Marks : 1 Wrong Marks : 0.25

Select the word segment that substitutes (replaces) the highlighted word segment correctly and completes the sentence meaningfully.

Either Gaurav or Saurav have written that note.

Options :

1. ✔ has written that note
2. ✖ have wrote that note
3. ✖ has wrote that note
4. ✖ No correction required

Question Number : 129 Question Id : 54592734873 Question Type : MCQ Option Shuffling : Yes

Correct Marks : 1 Wrong Marks : 0.25

Select the word segment that substitutes (replaces) the highlighted word segment correctly and completes the sentence meaningfully.

Either Gaurav or Saurav have written that note.

Options :

1. ✓ has written that note
2. ✗ have wrote that note
3. ✗ has wrote that note
4. ✗ No correction required

Question Number : 130 Question Id : 54592734874 Question Type : MCQ Option Shuffling : Yes

Correct Marks : 1 Wrong Marks : 0.25

Select the word segment that substitutes (replaces) the highlighted word segment correctly and completes the sentence meaningfully.

I always know that one day you would make a big name for yourself.

Options :

1. ✓ I always knew that
2. ✗ I always known that
3. ✗ I alway knew that
4. ✗ No correction required

Question Number : 130 Question Id : 54592734874 Question Type : MCQ Option Shuffling : Yes

Correct Marks : 1 Wrong Marks : 0.25

Select the word segment that substitutes (replaces) the highlighted word segment correctly and completes the sentence meaningfully.

I **always** know that one day you would make a big name for yourself.

Options :

1. ✓ I always knew that
2. ✗ I always known that
3. ✗ I alway knew that
4. ✗ No correction required

Question Number : 131 Question Id : 54592734875 Question Type : MCQ Option Shuffling : Yes
Correct Marks : 1 Wrong Marks : 0.25

Select the word that fills in the blank correctly and completes the sentence meaningfully.

The boys _____ the puppy out of the ditch.

Options :

1. ✗ pushed
2. ✓ pulled
3. ✗ laid
4. ✗ thrust

Question Number : 131 Question Id : 54592734875 Question Type : MCQ Option Shuffling : Yes
Correct Marks : 1 Wrong Marks : 0.25

Select the word that fills in the blank correctly and completes the sentence meaningfully.

The boys _____ the puppy out of the ditch.

Options :

1. ✘ pushed
2. ✔ pulled
3. ✘ laid
4. ✘ thrust

Question Number : 132 Question Id : 54592734876 Question Type : MCQ Option Shuffling : Yes
Correct Marks : 1 Wrong Marks : 0.25

Select the word that fills in the blank correctly and completes the sentence meaningfully.

The priest told the hiding convict that he was _____ by the President.

Options :

1. ✘ forgotten
2. ✘ exited
3. ✘ donated
4. ✔ pardoned

Question Number : 132 Question Id : 54592734876 Question Type : MCQ Option Shuffling : Yes
Correct Marks : 1 Wrong Marks : 0.25

Select the word that fills in the blank correctly and completes the sentence meaningfully.

The priest told the hiding convict that he was _____ by the President.

Options :

1. ✖ forgotten

2. ✖ exited

3. ✖ donated

4. ✔ pardoned

Question Number : 133 Question Id : 54592734877 Question Type : MCQ Option Shuffling : Yes

Correct Marks : 1 Wrong Marks : 0.25

Select the word that fills in the blank correctly and completes the sentence meaningfully.

The mother bird _____ the damaged egg.

Options :

1. ✔ abandoned

2. ✖ mollified

3. ✖ revealed

4. ✖ gesticulated

Question Number : 133 Question Id : 54592734877 Question Type : MCQ Option Shuffling : Yes

Correct Marks : 1 Wrong Marks : 0.25

Select the word that fills in the blank correctly and completes the sentence meaningfully.

The mother bird _____ the damaged egg.

Options :

1. ✓ abandoned
2. ✗ mollified
3. ✗ revealed
4. ✗ gesticulated

Question Number : 134 Question Id : 54592734878 Question Type : MCQ Option Shuffling : Yes
Correct Marks : 1 Wrong Marks : 0.25

Select the word that fills in the blank correctly and completes the sentence meaningfully.

The monk was seen _____ around in the forest.

Options :

1. ✓ wandering
2. ✗ wondering
3. ✗ lambasting
4. ✗ eulogizing

Question Number : 134 Question Id : 54592734878 Question Type : MCQ Option Shuffling : Yes
Correct Marks : 1 Wrong Marks : 0.25

Select the word that fills in the blank correctly and completes the sentence meaningfully.

The monk was seen _____ around in the forest.

Options :

1. ✓ wandering

2. ✗ wondering

3. ✗ lambasting

4. ✗ eulogizing

Question Number : 135 Question Id : 54592734879 Question Type : MCQ Option Shuffling : Yes

Correct Marks : 1 Wrong Marks : 0.25

Select the word that fills in the blank correctly and completes the sentence meaningfully.

The police _____ the suspect throughout the night to find clues.

Options :

1. ✗ abrogated

2. ✓ interrogated

3. ✗ abnegated

4. ✗ masticated

Question Number : 135 Question Id : 54592734879 Question Type : MCQ Option Shuffling : Yes

Correct Marks : 1 Wrong Marks : 0.25

Select the word that fills in the blank correctly and completes the sentence meaningfully.

The police _____ the suspect throughout the night to find clues.

Options :

1. ✗ abrogated

2. ✓ interrogated

3. ✗ abnegated

4. ✖ masticated

Question Number : 136 Question Id : 54592734880 Question Type : MCQ Option Shuffling : Yes
Correct Marks : 1 Wrong Marks : 0.25

Select the word that fills in the blank correctly and completes the sentence meaningfully.

You can avoid probable accidents if you drive _____.

Options :

1. ✖ careful
2. ✔ carefully
3. ✖ cautious
4. ✖ cautionly

Question Number : 136 Question Id : 54592734880 Question Type : MCQ Option Shuffling : Yes
Correct Marks : 1 Wrong Marks : 0.25

Select the word that fills in the blank correctly and completes the sentence meaningfully.

You can avoid probable accidents if you drive _____.

Options :

1. ✖ careful
2. ✔ carefully
3. ✖ cautious
4. ✖ cautionly

Question Number : 137 Question Id : 54592734881 Question Type : MCQ Option Shuffling : Yes
Correct Marks : 1 Wrong Marks : 0.25

Select the word that fills in the blank correctly and completes the sentence meaningfully.

_____ will give me the advice that I need so badly?

Options :

1. ✘ Whom
2. ✘ Whose
3. ✘ Which
4. ✔ Who

Question Number : 137 Question Id : 54592734881 Question Type : MCQ Option Shuffling : Yes
Correct Marks : 1 Wrong Marks : 0.25

Select the word that fills in the blank correctly and completes the sentence meaningfully.

_____ will give me the advice that I need so badly?

Options :

1. ✘ Whom
2. ✘ Whose
3. ✘ Which
4. ✔ Who

Question Number : 138 Question Id : 54592734882 Question Type : MCQ Option Shuffling : Yes
Correct Marks : 1 Wrong Marks : 0.25

Select the word that fills in the blank correctly and completes the sentence meaningfully.

The hungry kids gobbled up the food _____.

Options :

1. ✔ voraciously

2. ✖ extremely

3. ✖ variously

4. ✖ diligently

Question Number : 138 Question Id : 54592734882 Question Type : MCQ Option Shuffling : Yes
Correct Marks : 1 Wrong Marks : 0.25

Select the word that fills in the blank correctly and completes the sentence meaningfully.

The hungry kids gobbled up the food _____.

Options :

1. ✔ voraciously

2. ✖ extremely

3. ✖ variously

4. ✖ diligently

Question Number : 139 Question Id : 54592734883 Question Type : MCQ Option Shuffling : Yes
Correct Marks : 1 Wrong Marks : 0.25

Some parts of a sentence have been jumbled up, and labeled P, Q, R and S. Select the option that gives the correct sequence in which these parts can be rearranged to form a meaningful and grammatically correct sentence.

P: In the management of international affairs

Q: politicians who formulate policies

R: there is a barrier between

S: and the professionals who implement it

Options :

1. ✔ PRQS

2. ✖ PQRS

3. ✖ PSRQ

4. ✖ QSRP

Question Number : 139 Question Id : 54592734883 Question Type : MCQ Option Shuffling : Yes
Correct Marks : 1 Wrong Marks : 0.25

Some parts of a sentence have been jumbled up, and labeled P, Q, R and S. Select the option that gives the correct sequence in which these parts can be rearranged to form a meaningful and grammatically correct sentence.

P: In the management of international affairs

Q: politicians who formulate policies

R: there is a barrier between

S: and the professionals who implement it

Options :

1. ✔ PRQS

2. ✖ PQRS

3. ✖ PSRQ

4. ✖ QSRP

Question Number : 140 Question Id : 54592734884 Question Type : MCQ Option Shuffling : Yes
Correct Marks : 1 Wrong Marks : 0.25

The sentences of a paragraph have been jumbled up, and labeled P, Q, R and S. Select the option that gives the correct sequence in which these sentences should be rearranged to form a meaningful paragraph.

P: We started the gastronomic treat with an appetiser.

Q: For the main course, we ordered some Indian vegetables and breads.

R: Last Sunday, we dined at the Spize Mahal.

S: We finished the dinner with a mint-flavoured dessert.

Options :

1. ✓ RPQS

2. ✗ PQRS

3. ✗ SRPQ

4. ✗ QPSR

Question Number : 140 Question Id : 54592734884 Question Type : MCQ Option Shuffling : Yes

Correct Marks : 1 Wrong Marks : 0.25

The sentences of a paragraph have been jumbled up, and labeled P, Q, R and S. Select the option that gives the correct sequence in which these sentences should be rearranged to form a meaningful paragraph.

P: We started the gastronomic treat with an appetiser.

Q: For the main course, we ordered some Indian vegetables and breads.

R: Last Sunday, we dined at the Spize Mahal.

S: We finished the dinner with a mint-flavoured dessert.

Options :

1. ✓ RPQS

2. ✗ PQRS

3. ✗ SRPQ

4. ✗ QPSR

General English2

| | |
|---|------------|
| Group Number : | 8 |
| Group Id : | 5459271728 |
| Group Maximum Duration : | 0 |
| Group Minimum Duration : | 0 |
| Show Attended Group? : | No |
| Edit Attended Group? : | No |
| Break time: | 0 |
| Group Marks: | 20 |
| Is this Group for Examiner?: | No |
| Revisit allowed for group Instructions? : | Yes |
| Maximum Instruction Time: | 0 |
| Minimum Instruction Time: | 0 |

General English2

| | |
|--------------------------------------|------------|
| Section Id : | 5459271728 |
| Section Number : | 1 |
| Section type : | Online |
| Mandatory or Optional: | Mandatory |
| Number of Questions: | 16 |
| Number of Questions to be attempted: | 16 |
| Section Marks: | 20 |

| | |
|------------------------------|------------|
| Sub-Section Number: | 1 |
| Sub-Section Id: | 5459272072 |
| Question Shuffling Allowed : | Yes |

Question Number : 141 Question Id : 54592734885 Question Type : MCQ Option Shuffling : Yes
Correct Marks : 1 Wrong Marks : 0.25

The sentences of a paragraph have been jumbled up, and labeled P, Q, R and S. Select the option that gives the correct sequence in which these sentences should be rearranged to form a meaningful paragraph.

P: The news of the reptile visitor spread like a wildfire.

Q: One of those days, someone spotted a crocodile in the village lake.

R: Soon, orders were issued that no child was to go towards the lake or to the orchard, which was just across the lake.

S: As a result, we were forced to look for another activity that could keep us occupied and out of harm's way.

Options :

1. ✖ RQPS

2. ✖ PQRS

3. ✔ QPRS

4. ✖ RQSP

Question Number : 141 Question Id : 54592734885 Question Type : MCQ Option Shuffling : Yes

Correct Marks : 1 Wrong Marks : 0.25

The sentences of a paragraph have been jumbled up, and labeled P, Q, R and S. Select the option that gives the correct sequence in which these sentences should be rearranged to form a meaningful paragraph.

P: The news of the reptile visitor spread like a wildfire.

Q: One of those days, someone spotted a crocodile in the village lake.

R: Soon, orders were issued that no child was to go towards the lake or to the orchard, which was just across the lake.

S: As a result, we were forced to look for another activity that could keep us occupied and out of harm's way.

Options :

1. ✘ RQPS

2. ✘ PQRS

3. ✔ QPRS

4. ✘ RQSP

Question Number : 142 Question Id : 54592734886 Question Type : MCQ Option Shuffling : Yes

Correct Marks : 1 Wrong Marks : 0.25

Select the word that is closest in meaning (SYNONYM) to the word given below.

RADIANT

Options :

1. ✘ Modern

2. ✓ Luminous

3. ✗ Critical

4. ✗ Trivial

Question Number : 142 Question Id : 54592734886 Question Type : MCQ Option Shuffling : Yes
Correct Marks : 1 Wrong Marks : 0.25

Select the word that is closest in meaning (SYNONYM) to the word given below.

RADIANT

Options :

1. ✗ Modern

2. ✓ Luminous

3. ✗ Critical

4. ✗ Trivial

Question Number : 143 Question Id : 54592734887 Question Type : MCQ Option Shuffling : Yes
Correct Marks : 1 Wrong Marks : 0.25

Select the word that is closest in meaning (SYNONYM) to the word given below.

ONEROUS

Options :

1. ✓ Arduous

2. ✗ Illusive

3. ✗ Unanimous

4. ✗ Harmonious

Question Number : 143 Question Id : 54592734887 Question Type : MCQ Option Shuffling : Yes
Correct Marks : 1 Wrong Marks : 0.25

Select the word that is closest in meaning (SYNONYM) to the word given below.

ONEROUS

Options :

1. ✓ Arduous
2. ✗ Illusive
3. ✗ Unanimous
4. ✗ Harmonious

Question Number : 144 Question Id : 54592734888 Question Type : MCQ Option Shuffling : Yes

Correct Marks : 1 Wrong Marks : 0.25

Select the word that is opposite in meaning (ANTONYM) to the word given below.

ABHOR

Options :

1. ✗ Embark
2. ✗ Jeopardize
3. ✗ Loathe
4. ✓ Admire

Question Number : 144 Question Id : 54592734888 Question Type : MCQ Option Shuffling : Yes

Correct Marks : 1 Wrong Marks : 0.25

Select the word that is opposite in meaning (ANTONYM) to the word given below.

ABHOR

Options :

1. ✖ Embark
2. ✖ Jeopardize
3. ✖ Loathe
4. ✔ Admire

Question Number : 145 Question Id : 54592734889 Question Type : MCQ Option Shuffling : Yes
Correct Marks : 1 Wrong Marks : 0.25

Select the correct word (HOMONYM) that fills in the blank and makes the sentence meaningful.

The cat licked its _____.

Options :

1. ✖ pause
2. ✔ paws
3. ✖ paos
4. ✖ pawes

Question Number : 145 Question Id : 54592734889 Question Type : MCQ Option Shuffling : Yes
Correct Marks : 1 Wrong Marks : 0.25

Select the correct word (HOMONYM) that fills in the blank and makes the sentence meaningful.

The cat licked its _____.

Options :

1. ✖ pause
2. ✔ paws
3. ✖ paos
4. ✖ pawes

Question Number : 146 Question Id : 54592734890 Question Type : MCQ Option Shuffling : Yes

Correct Marks : 1 Wrong Marks : 0.25

Select the correct word (HOMONYM) that fills in the blank and makes the sentence meaningful.

The emperor _____ out terrible punishment to rebels.

Options :

1. ✖ meated

2. ✖ meeted

3. ✔ meted

4. ✖ mited

Question Number : 146 Question Id : 54592734890 Question Type : MCQ Option Shuffling : Yes

Correct Marks : 1 Wrong Marks : 0.25

Select the correct word (HOMONYM) that fills in the blank and makes the sentence meaningful.

The emperor _____ out terrible punishment to rebels.

Options :

1. ✖ meated

2. ✖ meeted

3. ✔ meted

4. ✖ mited

Question Number : 147 Question Id : 54592734891 Question Type : MCQ Option Shuffling : Yes

Correct Marks : 1 Wrong Marks : 0.25

Select the word that is spelled correctly.

Options :

1. ✔ Adversity

2. ✖ Advercity

3. ✖ Adversety

4. ✖ Advarcity

Question Number : 147 Question Id : 54592734891 Question Type : MCQ Option Shuffling : Yes
Correct Marks : 1 Wrong Marks : 0.25

Select the word that is spelled correctly.

Options :

1. ✔ Adversity

2. ✖ Advercity

3. ✖ Adversety

4. ✖ Advarcity

Question Number : 148 Question Id : 54592734892 Question Type : MCQ Option Shuffling : Yes
Correct Marks : 1 Wrong Marks : 0.25

Select the word that is spelled correctly.

Options :

1. ✖ Cogglomeration

2. ✔ Conglomeration

3. ✖ Cognomeration

4. ✖ Congomoration

Question Number : 148 Question Id : 54592734892 Question Type : MCQ Option Shuffling : Yes
Correct Marks : 1 Wrong Marks : 0.25

Select the word that is spelled correctly.

Options :

1. ✖ Cogglomeration

2. ✔ Conglomeration

3. ✖ Cognomeration

4. ✖ Congomoration

Question Number : 149 Question Id : 54592734893 Question Type : MCQ Option Shuffling : Yes

Correct Marks : 1 Wrong Marks : 0.25

Select the word that is spelled correctly.

Options :

1. ✖ Renaissance
2. ✖ Renaissance
3. ✔ Renaissance
4. ✖ Renneissance

Question Number : 149 Question Id : 54592734893 Question Type : MCQ Option Shuffling : Yes

Correct Marks : 1 Wrong Marks : 0.25

Select the word that is spelled correctly.

Options :

1. ✖ Renaissance
2. ✖ Renaissance
3. ✔ Renaissance
4. ✖ Renneissance

Question Number : 150 Question Id : 54592734894 Question Type : MCQ Option Shuffling : Yes

Correct Marks : 1 Wrong Marks : 0.25

Select the option that best expresses the meaning of the idiom or phrase given below.

To be at cross purposes

Options :

1. ✔ To misunderstand each other
2. ✖ To prepare false accounts
3. ✖ To be patient with someone
4. ✖ To reduce one's use of it

Question Number : 150 Question Id : 54592734894 Question Type : MCQ Option Shuffling : Yes

Correct Marks : 1 Wrong Marks : 0.25

Select the option that best expresses the meaning of the idiom or phrase given below.

To be at cross purposes

Options :

1. ✓ To misunderstand each other
2. ✗ To prepare false accounts
3. ✗ To be patient with someone
4. ✗ To reduce one's use of it

Question Number : 151 Question Id : 54592734895 Question Type : MCQ Option Shuffling : Yes

Correct Marks : 1 Wrong Marks : 0.25

Select the option that best expresses the meaning of the idiom or phrase given below.

To be at one's wits' end

Options :

1. ✓ To be unable to decide what is to be done
2. ✗ To near the end of one's career
3. ✗ To be closer to one's death
4. ✗ To talk nonsensically

Question Number : 151 Question Id : 54592734895 Question Type : MCQ Option Shuffling : Yes

Correct Marks : 1 Wrong Marks : 0.25

Select the option that best expresses the meaning of the idiom or phrase given below.

To be at one's wits' end

Options :

1. ✓ To be unable to decide what is to be done
2. ✗ To near the end of one's career
3. ✗ To be closer to one's death
4. ✗ To talk nonsensically

Question Number : 152 Question Id : 54592734896 Question Type : MCQ Option Shuffling : Yes
Correct Marks : 1 Wrong Marks : 0.25

Select the option that best expresses the meaning of the idiom or phrase given below.

To eat a humble pie

Options :

1. ✗ To eat at home rather than at a restaurant
2. ✗ To accept a bribe or kickbak
3. ✓ To apologize humbly
4. ✗ To eat a lot of food

Question Number : 152 Question Id : 54592734896 Question Type : MCQ Option Shuffling : Yes
Correct Marks : 1 Wrong Marks : 0.25

Select the option that best expresses the meaning of the idiom or phrase given below.

To eat a humble pie

Options :

1. ✗ To eat at home rather than at a restaurant
2. ✗ To accept a bribe or kickbak
3. ✓ To apologize humbly
4. ✗ To eat a lot of food

Question Number : 153 Question Id : 54592734897 Question Type : MCQ Option Shuffling : Yes

Correct Marks : 1 Wrong Marks : 0.25

Select the most appropriate 'one word' for the expressions given below.

Study of historic or prehistoric material remains

Options :

1. ✖ Ethnology
2. ✖ Architecture
3. ✔ Archaeology
4. ✖ Psephology

Question Number : 153 Question Id : 54592734897 Question Type : MCQ Option Shuffling : Yes

Correct Marks : 1 Wrong Marks : 0.25

Select the most appropriate 'one word' for the expressions given below.

Study of historic or prehistoric material remains

Options :

1. ✖ Ethnology
2. ✖ Architecture
3. ✔ Archaeology
4. ✖ Psephology

Question Number : 154 Question Id : 54592734898 Question Type : MCQ Option Shuffling : Yes

Correct Marks : 1 Wrong Marks : 0.25

Select the most appropriate 'one word' for the expressions given below.

The one who doubts the existence of God

Options :

1. ✖ Gnostic
2. ✖ Atheist
3. ✔ Agnostic
4. ✖ Theist

Question Number : 154 Question Id : 54592734898 Question Type : MCQ Option Shuffling : Yes

Correct Marks : 1 Wrong Marks : 0.25

Select the most appropriate 'one word' for the expressions given below.

The one who doubts the existence of God

Options :

1. ✖ Gnostic
2. ✖ Atheist
3. ✔ Agnostic
4. ✖ Theist

Question Number : 155 Question Id : 54592734899 Question Type : MCQ Option Shuffling : Yes

Correct Marks : 1 Wrong Marks : 0.25

Select the most appropriate 'one word' for the expressions given below.

The practice of having more than one husbands at the same time

Options :

1. ✖ Monoandry
2. ✖ Polygyny
3. ✖ Mongamy

4. ✓ Polyandry

Question Number : 155 Question Id : 54592734899 Question Type : MCQ Option Shuffling : Yes

Correct Marks : 1 Wrong Marks : 0.25

Select the most appropriate 'one word' for the expressions given below.

The practice of having more than one husbands at the same time

Options :

1. ✗ Monoandry

2. ✗ Polygyny

3. ✗ Mongamy

4. ✓ Polyandry

| | |
|------------------------------|------------|
| Sub-Section Number: | 2 |
| Sub-Section Id: | 5459272073 |
| Question Shuffling Allowed : | Yes |

Question Id : 54592734900 Question Type : COMPREHENSION Sub Question Shuffling Allowed : Yes Group Comprehension Questions : No

Question Numbers : (156 to 160)

Question Label : Comprehension

Read the passage below and answer the questions that follow.

Francis of Assisi famously said that men lose all the material things they leave behind them in this world, but they carry with them the reward of their charity and the alms they give. For these, they will receive from the Lord the reward and recompense they deserve.

Not all men (read human beings) are born equal. Some are born rich, some are born poor, and a vast majority somewhere in between. Similarly, not all men are equally gifted in the field of earning wealth and delivering material comfort to their loved ones. But the basic necessities of all human beings need to be fulfilled if they are to lead a fulfilling and honourable life. Every religious scripture and denomination preaches its followers to treat fellow human beings with love and kindness. Charity and service to fellow humans is universally rated as the supreme service to God. If you look around with kindness and sympathy, you will come across people who need help, not essentially and always monetary! People around us need love, care and compassion as well. As a good human being, it is our duty to help people whenever and wherever possible. Instead of waiting for the best time to start charity, you should start here and now. If God has been kind to you in showering his blessings, there is one sure way of praising him—by sharing God's blessings with others who need it more urgently than you do.

If you do not have the money and resources to spare, but you have the inclination to help, you can consider volunteering your time. Choose a charitable work that interests you and where you can help with your education, skills and expertise. Your charitable actions will not just brighten the life of someone less fortunate but also light up your world, too. When that someone smiles at you with gratitude, will know the real joy of giving.

Sub questions

Question Number : 156 Question Id : 54592734901 Question Type : MCQ Option Shuffling : Yes

Correct Marks : 1 Wrong Marks : 0.25

According to the passage, which among the following is universally rated as the supreme service to God?

Options :

1. ✖ delivering material comfort to their loved ones
2. ✔ Charity and service to fellow humans
3. ✖ earning wealth
4. ✖ leading a fulfilling and honourable life

Question Number : 157 Question Id : 54592734902 Question Type : MCQ Option Shuffling : Yes

Correct Marks : 1 Wrong Marks : 0.25

According to the passage, people around us might need certain kind of help other than money. Which one of the following is NOT included among the kinds of help mentioned in the passage?

Options :

1. ✖ Love
2. ✖ Care
3. ✖ Compassion
4. ✔ Reward

Question Number : 158 Question Id : 54592734903 Question Type : MCQ Option Shuffling : Yes

Correct Marks : 1 Wrong Marks : 0.25

According to Francis of Assisi, when do men carry with them the reward of their charity and the alms they give?

Options :

1. ✖ During pilgrimage
2. ✖ At the time of a vacation
3. ✖ During their visit to a church or any other religious place
4. ✔ After their death

Question Number : 159 Question Id : 54592734904 Question Type : MCQ Option Shuffling : Yes

Correct Marks : 1 Wrong Marks : 0.25

To whom does Francis of Assisi refer to as the 'Lord'?

Options :

1. ✖ King of his kingdom
2. ✔ The Almighty God
3. ✖ Owner of the factory where he worked
4. ✖ Sultan of Egypt

Question Number : 160 Question Id : 54592734905 Question Type : MCQ Option Shuffling : Yes

Correct Marks : 1 Wrong Marks : 0.25

What is the meaning of the word 'denomination' as used in the passage?

Options :

1. ✔ A religious subgroup that is different from other subgroups
2. ✖ the value of a particular coin or currency note
3. ✖ a direct specific meaning as distinct from an implied or associated idea
4. ✖ A charitable organization being run by the government

Question Id : 54592734900 Question Type : COMPREHENSION Sub Question Shuffling Allowed : Yes Group Comprehension Questions : No

Question Numbers : (156 to 160)

Question Label : Comprehension

Read the passage below and answer the questions that follow.

Francis of Assisi famously said that men lose all the material things they leave behind them in this world, but they carry with them the reward of their charity and the alms they give. For these, they will receive from the Lord the reward and recompense they deserve.

Not all men (read human beings) are born equal. Some are born rich, some are born poor, and a vast majority somewhere in between. Similarly, not all men are equally gifted in the field of earning wealth and delivering material comfort to their loved ones. But the basic necessities of all human beings need to be fulfilled if they are to lead a fulfilling and honourable life. Every religious scripture and denomination preaches its followers to treat fellow human beings with love and kindness. Charity and service to fellow humans is universally rated as the supreme service to God. If you look around with kindness and sympathy, you will come across people who need help, not essentially and always monetary! People around us need love, care and compassion as well. As a good human being, it is our duty to help people whenever and wherever possible. Instead of waiting for the best time to start charity, you should start here and now. If God has been kind to you in showering his blessings, there is one sure way of praising him – by sharing God's blessings with others who need it more urgently than you do.

If you do not have the money and resources to spare, but you have the inclination to help, you can consider volunteering your time. Choose a charitable work that interests you and where you can help with your education, skills and expertise. Your charitable actions will not just brighten the life of someone less fortunate but also light up your world, too. When that someone smiles at you with gratitude, will know the real joy of giving.

Sub questions

Question Number : 156 Question Id : 54592734901 Question Type : MCQ Option Shuffling : Yes

Correct Marks : 1 Wrong Marks : 0.25

According to the passage, which among the following is universally rated as the supreme service to God?

Options :

1. ✘ delivering material comfort to their loved ones
2. ✔ Charity and service to fellow humans
3. ✘ earning wealth
4. ✘ leading a fulfilling and honourable life

Question Number : 157 Question Id : 54592734902 Question Type : MCQ Option Shuffling : Yes

Correct Marks : 1 Wrong Marks : 0.25

According to the passage, people around us might need certain kind of help other than money. Which one of the following is NOT included among the kinds of help mentioned in the passage?

Options :

1. ✘ Love
2. ✘ Care
3. ✘ Compassion
4. ✔ Reward

Question Number : 158 Question Id : 54592734903 Question Type : MCQ Option Shuffling : Yes

Correct Marks : 1 Wrong Marks : 0.25

According to Francis of Assisi, when do men carry with them the reward of their charity and the alms they give?

Options :

1. ✘ During pilgrimage

2. ✖ At the time of a vacation
3. ✖ During their visit to a church or any other religious place
4. ✔ After their death

Question Number : 159 Question Id : 54592734904 Question Type : MCQ Option Shuffling : Yes
Correct Marks : 1 Wrong Marks : 0.25

To whom does Francis of Assisi refer to as the 'Lord'?

Options :

1. ✖ King of his kingdom
2. ✔ The Almighty God
3. ✖ Owner of the factory where he worked
4. ✖ Sultan of Egypt

Question Number : 160 Question Id : 54592734905 Question Type : MCQ Option Shuffling : Yes
Correct Marks : 1 Wrong Marks : 0.25

What is the meaning of the word 'denomination' as used in the passage?

Options :

1. ✔ A religious subgroup that is different from other subgroups
2. ✖ the value of a particular coin or currency note
3. ✖ a direct specific meaning as distinct from an implied or associated idea
4. ✖ A charitable organization being run by the government

General Hindi1

| | |
|---|------------|
| Group Number : | 9 |
| Group Id : | 5459271729 |
| Group Maximum Duration : | 0 |
| Group Minimum Duration : | 0 |
| Show Attended Group? : | No |
| Edit Attended Group? : | No |
| Break time: | 0 |
| Group Marks: | 20 |
| Is this Group for Examiner?: | No |
| Revisit allowed for group Instructions? : | Yes |
| Maximum Instruction Time: | 0 |
| Minimum Instruction Time: | 0 |

General Hindi1

| | |
|--------------------------------------|------------|
| Section Id : | 5459271729 |
| Section Number : | 1 |
| Section type : | Online |
| Mandatory or Optional: | Mandatory |
| Number of Questions: | 20 |
| Number of Questions to be attempted: | 20 |
| Section Marks: | 20 |

| | |
|------------------------------|------------|
| Sub-Section Number: | 1 |
| Sub-Section Id: | 5459272074 |
| Question Shuffling Allowed : | Yes |

Question Number : 161 Question Id : 54592734906 Question Type : MCQ Option Shuffling : Yes
Correct Marks : 1 Wrong Marks : 0.25

निम्नलिखित प्रश्न में, चार विकल्पों में से, उस विकल्प का चयन करें जो दिए गए शब्द के सही संधि विच्छेद का विकल्प है।

निम्नांकित

Options :

1. * निम्न + कित
2. * निम्नां + कीत
3. * निम्ना + कित
4. ✓ निम्न + अंकित

Question Number : 161 Question Id : 54592734906 Question Type : MCQ Option Shuffling : Yes
Correct Marks : 1 Wrong Marks : 0.25

निम्नलिखित प्रश्न में, चार विकल्पों में से, उस विकल्प का चयन करें जो दिए गए शब्द के सही संधि विच्छेद का विकल्प है।

निम्नांकित

Options :

1. * निम्न + कित
2. * निम्नां + कीत
3. * निम्ना + कित
4. ✓ निम्न + अंकित

Question Number : 162 Question Id : 54592734907 Question Type : MCQ Option Shuffling : Yes

Correct Marks : 1 Wrong Marks : 0.25

निम्नलिखित प्रश्न में, चार विकल्पों में से, उस विकल्प का चयन करें जो प्रत्यय से बने शब्द का सही विकल्प है।

Options :

1. ✓ मिलनसार
2. * अंतर्मन
3. * सज्जन
4. * चिरायु

Question Number : 162 Question Id : 54592734907 Question Type : MCQ Option Shuffling : Yes

Correct Marks : 1 Wrong Marks : 0.25

निम्नलिखित प्रश्न में, चार विकल्पों में से, उस विकल्प का चयन करें जो प्रत्यय से बने शब्द का सही विकल्प है।

Options :

1. ✓ मिलनसार
2. * अंतर्मन
3. * सज्जन

4. * चिरायु

Question Number : 163 Question Id : 54592734908 Question Type : MCQ Option Shuffling : Yes

Correct Marks : 1 Wrong Marks : 0.25

निम्नलिखित प्रश्न में, चार विकल्पों में से, उस विकल्प का चयन करें जो दिए गए शब्द का सही तद्भव रूप वाला विकल्प है।

वर्तिका

Options :

1. * बच्चा
2. ✓ बत्ती
3. * बखान
4. * बारात

Question Number : 163 Question Id : 54592734908 Question Type : MCQ Option Shuffling : Yes

Correct Marks : 1 Wrong Marks : 0.25

निम्नलिखित प्रश्न में, चार विकल्पों में से, उस विकल्प का चयन करें जो दिए गए शब्द का सही तद्भव रूप वाला विकल्प है।

वर्तिका

Options :

1. * बच्चा
2. ✓ बत्ती
3. * बखान
4. * बारात

Question Number : 164 Question Id : 54592734909 Question Type : MCQ Option Shuffling : Yes

Correct Marks : 1 Wrong Marks : 0.25

निम्नलिखित प्रश्न में, चार विकल्पों में से, उस विकल्प का चयन करें जो भाववाचक संज्ञा का सही विकल्प नहीं है।

Options :

1. * देखभाल
2. * स्थापना
3. ✓ शीघ्रता
4. * संतुष्ट

Question Number : 164 Question Id : 54592734909 Question Type : MCQ Option Shuffling : Yes
Correct Marks : 1 Wrong Marks : 0.25

निम्नलिखित प्रश्न में, चार विकल्पों में से, उस विकल्प का चयन करें जो भाववाचक संज्ञा का सही विकल्प नहीं है।

Options :

1. * देखभाल
2. * स्थापना
3. ✓ शीघ्रता
4. * संतुष्ट

Question Number : 165 Question Id : 54592734910 Question Type : MCQ Option Shuffling : Yes
Correct Marks : 1 Wrong Marks : 0.25

निम्नलिखित प्रश्न में, चार विकल्पों में से, उस विकल्प का चयन करें जो क्रिया के भेद वाला सही विकल्प है।

पढ़ाई करके वह खेलने जाएगा।

Options :

1. ✓ पूर्वकालिक क्रिया
2. * नामधातु
3. * प्रेरणार्थक क्रिया
4. * संयुक्त क्रिया

Question Number : 165 Question Id : 54592734910 Question Type : MCQ Option Shuffling : Yes
Correct Marks : 1 Wrong Marks : 0.25

निम्नलिखित प्रश्न में, चार विकल्पों में से, उस विकल्प का चयन करें जो क्रिया के भेद वाला सही विकल्प है।

पढ़ाई करके वह खेलने जाएगा।

Options :

1. ✓ पूर्वकालिक क्रिया
2. * नामधातु
3. * प्रेरणार्थक क्रिया
4. * संयुक्त क्रिया

Question Number : 166 Question Id : 54592734911 Question Type : MCQ Option Shuffling : Yes

Correct Marks : 1 Wrong Marks : 0.25

निम्नलिखित प्रश्न में, चार विकल्पों में से, उस विकल्प का चयन करें जो दिए गए शब्द के पर्यायवाची शब्द का सही विकल्प नहीं है।

प्रभा:

Options :

1. * कांति
2. * द्युति
3. ✓ पाक
4. * चमक

Question Number : 166 Question Id : 54592734911 Question Type : MCQ Option Shuffling : Yes

Correct Marks : 1 Wrong Marks : 0.25

निम्नलिखित प्रश्न में, चार विकल्पों में से, उस विकल्प का चयन करें जो दिए गए शब्द के पर्यायवाची शब्द का सही विकल्प नहीं है।

प्रभा:

Options :

1. ✖ कांति
2. ✖ द्युति
3. ✔ पाक
4. ✖ चमक

Question Number : 167 Question Id : 54592734912 Question Type : MCQ Option Shuffling : Yes
Correct Marks : 1 Wrong Marks : 0.25

निम्नलिखित प्रश्न में, चार विकल्पों में से, उस विकल्प का चयन करें जो दिए गए शब्द के विलोम शब्द का सही विकल्प है।

पृथक:

Options :

1. ✔ संयुक्त
2. ✖ अलग
3. ✖ किनारा
4. ✖ अकेला

Question Number : 167 Question Id : 54592734912 Question Type : MCQ Option Shuffling : Yes
Correct Marks : 1 Wrong Marks : 0.25

निम्नलिखित प्रश्न में, चार विकल्पों में से, उस विकल्प का चयन करें जो दिए गए शब्द के विलोम शब्द का सही विकल्प है।

पृथक:

Options :

1. ✔ संयुक्त
2. ✖ अलग
3. ✖ किनारा
4. ✖ अकेला

Question Number : 168 Question Id : 54592734913 Question Type : MCQ Option Shuffling : Yes
Correct Marks : 1 Wrong Marks : 0.25

निम्नलिखित प्रश्न में, चार विकल्पों में से, उस सही विकल्प का चयन करें जो रिक्त स्थान के लिए उचित विकल्प है।

एक बार उधार लेने के बाद तो लोगों का _____ ही नहीं रहता।

Options :

1. * अंख-पंख
2. ✓ अता-पता
3. * लेखा-जोखा
4. * अधिक-न्यून

Question Number : 168 Question Id : 54592734913 Question Type : MCQ Option Shuffling : Yes
Correct Marks : 1 Wrong Marks : 0.25

निम्नलिखित प्रश्न में, चार विकल्पों में से, उस सही विकल्प का चयन करें जो रिक्त स्थान के लिए उचित विकल्प है।

एक बार उधार लेने के बाद तो लोगों का _____ ही नहीं रहता।

Options :

1. * अंख-पंख
2. ✓ अता-पता
3. * लेखा-जोखा
4. * अधिक-न्यून

Question Number : 169 Question Id : 54592734914 Question Type : MCQ Option Shuffling : Yes
Correct Marks : 1 Wrong Marks : 0.25

निम्नलिखित प्रश्न में, चार विकल्पों में से, उस विकल्प का चयन करें जो दिए गए वाक्यांश के लिए एक शब्द का सही विकल्प है।

जो किसी विपत्ति का अनुभव कर चुके हो:

Options :

1. ✓ भुक्तभोगी
2. * मुक्तभोगी
3. * समदर्शी
4. * त्रासदी

Question Number : 169 Question Id : 54592734914 Question Type : MCQ Option Shuffling : Yes
Correct Marks : 1 Wrong Marks : 0.25

निम्नलिखित प्रश्न में, चार विकल्पों में से, उस विकल्प का चयन करें जो दिए गए वाक्यांश के लिए एक शब्द का सही विकल्प है।

जो किसी विपत्ति का अनुभव कर चुके हो:

Options :

1. ✓ भुक्तभोगी
2. * मुक्तभोगी
3. * समदर्शी
4. * त्रासदी

Question Number : 170 Question Id : 54592734915 Question Type : MCQ Option Shuffling : Yes
Correct Marks : 1 Wrong Marks : 0.25

निम्नलिखित प्रश्न में, चार विकल्पों में से, उस सही विकल्प का चयन करें जो रिक्त स्थान के लिए उचित विकल्प है।

शिकारी ने सुनहरे _____ का वध कर दिया।

Options :

1. * हरण
2. ✓ हरिण
3. * हरणी
4. * हीनर

Question Number : 170 Question Id : 54592734915 Question Type : MCQ Option Shuffling : Yes
Correct Marks : 1 Wrong Marks : 0.25

निम्नलिखित प्रश्न में, चार विकल्पों में से, उस सही विकल्प का चयन करें जो रिक्त स्थान के लिए उचित विकल्प है।

शिकारी ने सुनहरे _____ का वध कर दिया।

Options :

1. ✖ हरण
2. ✔ हरिण
3. ✖ हरणी
4. ✖ हीनर

Question Number : 171 Question Id : 54592734916 Question Type : MCQ Option Shuffling : Yes

Correct Marks : 1 Wrong Marks : 0.25

निम्नलिखित प्रश्न में, चार विकल्पों में से, उस विकल्प का चयन करें जो दिए गए शब्द के समानार्थी शब्द का सही विकल्प नहीं है।

केतन:

Options :

1. ✖ ध्वज
2. ✔ पुहुप
3. ✖ परचम
4. ✖ पताका

Question Number : 171 Question Id : 54592734916 Question Type : MCQ Option Shuffling : Yes

Correct Marks : 1 Wrong Marks : 0.25

निम्नलिखित प्रश्न में, चार विकल्पों में से, उस विकल्प का चयन करें जो दिए गए शब्द के समानार्थी शब्द का सही विकल्प नहीं है।

केतन:

Options :

1. ✖ ध्वज
2. ✔ पुहुप
3. ✖ परचम
4. ✖ पताका

Question Number : 172 Question Id : 54592734917 Question Type : MCQ Option Shuffling : Yes
Correct Marks : 1 Wrong Marks : 0.25

निम्नलिखित प्रश्न में, चार विकल्पों में से, उस विकल्प का चयन करें जो रिक्त स्थान के लिए उपयुक्त शब्द का सही विकल्प नहीं है।

श्रीमान, _____ बहुत दूर से आया हूँ।

Options :

1. ✖ तुम
2. ✖ मुझे
3. ✔ मैं
4. ✖ वह

Question Number : 172 Question Id : 54592734917 Question Type : MCQ Option Shuffling : Yes
Correct Marks : 1 Wrong Marks : 0.25

निम्नलिखित प्रश्न में, चार विकल्पों में से, उस विकल्प का चयन करें जो रिक्त स्थान के लिए उपयुक्त शब्द का सही विकल्प नहीं है।

श्रीमान, _____ बहुत दूर से आया हूँ।

Options :

1. ✖ तुम
2. ✖ मुझे
3. ✔ मैं
4. ✖ वह

Question Number : 173 Question Id : 54592734918 Question Type : MCQ Option Shuffling : Yes
Correct Marks : 1 Wrong Marks : 0.25

निम्नलिखित प्रश्न में, चार विकल्पों में से, उस विकल्प का चयन करें जो शुद्ध शब्द का सही विकल्प है।

Options :

1. ✓ कुशाग्र
2. * कूसग्र
3. * कुसार्ग
4. * कूसाग्र

Question Number : 173 Question Id : 54592734918 Question Type : MCQ Option Shuffling : Yes
Correct Marks : 1 Wrong Marks : 0.25

निम्नलिखित प्रश्न में, चार विकल्पों में से, उस विकल्प का चयन करें जो शुद्ध शब्द का सही विकल्प है।

Options :

1. ✓ कुशाग्र
2. * कूसग्र
3. * कुसार्ग
4. * कूसाग्र

Question Number : 174 Question Id : 54592734919 Question Type : MCQ Option Shuffling : Yes
Correct Marks : 1 Wrong Marks : 0.25

निम्नलिखित प्रश्न में, चार विकल्पों में से, उस विकल्प का चयन करें जो शुद्ध शब्द का सही विकल्प है।

Options :

1. ✓ उपस्थिति
2. * ऊपस्थिति
3. * उपस्थीती
4. * उपसथिति

Question Number : 174 Question Id : 54592734919 Question Type : MCQ Option Shuffling : Yes
Correct Marks : 1 Wrong Marks : 0.25

निम्नलिखित प्रश्न में, चार विकल्पों में से, उस विकल्प का चयन करें जो शुद्ध शब्द का सही विकल्प है।

Options :

1. ✓ उपस्थिति
2. ✗ ऊपस्थिति
3. ✗ उपस्थीती
4. ✗ उपसथिति

Question Number : 175 Question Id : 54592734920 Question Type : MCQ Option Shuffling : Yes

Correct Marks : 1 Wrong Marks : 0.25

निम्नलिखित प्रश्न में, चार विकल्पों में से, उस विकल्प का चयन करें जो शुद्ध शब्द का सही विकल्प है।

Options :

1. ✗ इश्या
2. ✓ ईष्या
3. ✗ इस्स्या
4. ✗ ईष्या

Question Number : 175 Question Id : 54592734920 Question Type : MCQ Option Shuffling : Yes

Correct Marks : 1 Wrong Marks : 0.25

निम्नलिखित प्रश्न में, चार विकल्पों में से, उस विकल्प का चयन करें जो शुद्ध शब्द का सही विकल्प है।

Options :

1. ✗ इश्या
2. ✓ ईष्या
3. ✗ इस्स्या
4. ✗ ईष्या

Question Number : 176 Question Id : 54592734921 Question Type : MCQ Option Shuffling : Yes

Correct Marks : 1 Wrong Marks : 0.25

निम्नलिखित प्रश्न में, चार विकल्पों में से, उस विकल्प का चयन करें जो सदा स्त्रीलिंग शब्द वाला सही विकल्प है।

Options :

1. * कलंक
2. ✓ मशीन
3. * खून
4. * गौरव

Question Number : 176 Question Id : 54592734921 Question Type : MCQ Option Shuffling : Yes

Correct Marks : 1 Wrong Marks : 0.25

निम्नलिखित प्रश्न में, चार विकल्पों में से, उस विकल्प का चयन करें जो सदा स्त्रीलिंग शब्द वाला सही विकल्प है।

Options :

1. * कलंक
2. ✓ मशीन
3. * खून
4. * गौरव

Question Number : 177 Question Id : 54592734922 Question Type : MCQ Option Shuffling : Yes

Correct Marks : 1 Wrong Marks : 0.25

निम्नलिखित प्रश्न में, चार विकल्पों में से, उस विकल्प का चयन करें जो दिए गए शब्द का सही स्त्रीलिंग वाला शब्द है।

विद्वान

Options :

1. * बिदुशी
2. * विद्वान्मती
3. ✓ विदुषी
4. * वीदूषी

Question Number : 177 Question Id : 54592734922 Question Type : MCQ Option Shuffling : Yes

Correct Marks : 1 Wrong Marks : 0.25

निम्नलिखित प्रश्न में, चार विकल्पों में से, उस विकल्प का चयन करें जो दिए गए शब्द का सही स्त्रीलिंग वाला शब्द है।

विद्वान

Options :

1. * बिदुशी
2. * विद्वान्मती
3. ✓ विदुषी
4. * वीदूषी

Question Number : 178 Question Id : 54592734923 Question Type : MCQ Option Shuffling : Yes

Correct Marks : 1 Wrong Marks : 0.25

निम्नलिखित प्रश्न में, चार विकल्पों में से, उस विकल्प का चयन करें जो दिए गए शब्द के लिए बहुवचन शब्द का सबसे अच्छा विकल्प है।

भक्त

Options :

1. ✓ भक्तजन
2. * भक्तों
3. * भक्तियाँ
4. * भक्ता

Question Number : 178 Question Id : 54592734923 Question Type : MCQ Option Shuffling : Yes

Correct Marks : 1 Wrong Marks : 0.25

निम्नलिखित प्रश्न में, चार विकल्पों में से, उस विकल्प का चयन करें जो दिए गए शब्द के लिए बहुवचन शब्द का सबसे अच्छा विकल्प है।

भक्त

Options :

1. ✓ भक्तजन

2. ✖ भक्तों

3. ✖ भक्तियाँ

4. ✖ भक्ता

Question Number : 179 Question Id : 54592734924 Question Type : MCQ Option Shuffling : Yes

Correct Marks : 1 Wrong Marks : 0.25

निम्नलिखित प्रश्न में, चार विकल्पों में से, उस विकल्प का चयन करें जो कोष्ठक में दिए गए शब्द के अनुसार मध्यम पुरुष वाचक सर्वनाम का सबसे अच्छा विकल्प है।

Options :

1. ✖ (मेरे) पास एक बिल्ली है।

2. ✓ (तुम) मेरे पास ही बैठे रहो।

3. ✖ (मुझको) कुछ नहीं चाहिए।

4. ✖ (उसका) सामान खो गया है।

Question Number : 179 Question Id : 54592734924 Question Type : MCQ Option Shuffling : Yes

Correct Marks : 1 Wrong Marks : 0.25

निम्नलिखित प्रश्न में, चार विकल्पों में से, उस विकल्प का चयन करें जो कोष्ठक में दिए गए शब्द के अनुसार मध्यम पुरुष वाचक सर्वनाम का सबसे अच्छा विकल्प है।

Options :

1. ✖ (मेरे) पास एक बिल्ली है।

2. ✓ (तुम) मेरे पास ही बैठे रहो।

3. ✖ (मुझको) कुछ नहीं चाहिए।

4. ✖ (उसका) सामान खो गया है।

Question Number : 180 Question Id : 54592734925 Question Type : MCQ Option Shuffling : Yes

Correct Marks : 1 Wrong Marks : 0.25

निम्नलिखित प्रश्न में, चार विकल्पों में से, उस विकल्प का चयन करें जो दिए गए वाक्य के काल का सही विकल्प है।

शायद आज मैं रोहन के घर जाऊँ।

Options :

1. * सामान्य भविष्यकाल
2. ✓ संभाव्य भविष्यकाल
3. * अपूर्ण भूतकाल
4. * हेतुहेतु मद भूतकाल

Question Number : 180 Question Id : 54592734925 Question Type : MCQ Option Shuffling : Yes

Correct Marks : 1 Wrong Marks : 0.25

निम्नलिखित प्रश्न में, चार विकल्पों में से, उस विकल्प का चयन करें जो दिए गए वाक्य के काल का सही विकल्प है।

शायद आज मैं रोहन के घर जाऊँ।

Options :

1. * सामान्य भविष्यकाल
2. ✓ संभाव्य भविष्यकाल
3. * अपूर्ण भूतकाल
4. * हेतुहेतु मद भूतकाल

General Hindi2

| | |
|---|------------|
| Group Number : | 10 |
| Group Id : | 5459271730 |
| Group Maximum Duration : | 0 |
| Group Minimum Duration : | 120 |
| Show Attended Group? : | No |
| Edit Attended Group? : | No |
| Break time: | 0 |
| Group Marks: | 20 |
| Is this Group for Examiner? : | No |
| Revisit allowed for group Instructions? : | Yes |

Maximum Instruction Time: 0
Minimum Instruction Time: 0

General Hindi2

Section Id : 5459271730
Section Number : 1
Section type : Online
Mandatory or Optional: Mandatory
Number of Questions: 16
Number of Questions to be attempted: 16
Section Marks: 20

Sub-Section Number: 1
Sub-Section Id: 5459272075
Question Shuffling Allowed : Yes

Question Number : 181 Question Id : 54592734926 Question Type : MCQ Option Shuffling : Yes
Correct Marks : 1 Wrong Marks : 0.25

निम्नलिखित प्रश्न में, चार विकल्पों में से, उस विकल्प का चयन करें जो दिए गए वाक्य के लिए वृत्ति के भेद का सबसे अच्छा विकल्प है।

बच्चे घर के लिए चल पड़े होंगे।

Options :

1. ✓ संदेहार्थ
2. * निश्चयार्थ
3. * संकेतार्थ
4. * संभावनार्थ

Question Number : 181 Question Id : 54592734926 Question Type : MCQ Option Shuffling : Yes
Correct Marks : 1 Wrong Marks : 0.25

निम्नलिखित प्रश्न में, चार विकल्पों में से, उस विकल्प का चयन करें जो दिए गए वाक्य के लिए वृत्ति के भेद का सबसे अच्छा विकल्प है।

बच्चे घर के लिए चल पड़े होंगे।

Options :

1. ✓ संदेहार्थ
2. * निश्चयार्थ
3. * संकेतार्थ
4. * संभावनार्थ

Question Number : 182 Question Id : 54592734927 Question Type : MCQ Option Shuffling : Yes
Correct Marks : 1 Wrong Marks : 0.25

निम्नलिखित प्रश्न में, चार विकल्पों में से, उस विकल्प का चयन करें जो दिए गए वाक्य के लिए पक्ष के भेद का सबसे अच्छा विकल्प है।

ठंड बढ़ती जा रही है!

Options :

1. * आरंभद्योतक
2. ✓ प्रगतिद्योतक
3. * सातप्यबोधक
4. * पूर्णताद्योतक

Question Number : 182 Question Id : 54592734927 Question Type : MCQ Option Shuffling : Yes
Correct Marks : 1 Wrong Marks : 0.25

निम्नलिखित प्रश्न में, चार विकल्पों में से, उस विकल्प का चयन करें जो दिए गए वाक्य के लिए पक्ष के भेद का सबसे अच्छा विकल्प है।

ठंड बढ़ती जा रही है!

Options :

1. * आरंभद्योतक
2. ✓ प्रगतिद्योतक
3. * सातप्यबोधक
4. * पूर्णताद्योतक

Question Number : 183 Question Id : 54592734928 Question Type : MCQ Option Shuffling : Yes
Correct Marks : 1 Wrong Marks : 0.25

निम्न विकल्पों में से निर्देशानुसार वाच्य परिवर्तन का विकल्प चुनिए।

वह अब बैठ नहीं सकता (भाववाच्य)

Options :

1. ✓ उससे अब बैठा नहीं जाता
2. * वह नहीं बैठेगा
3. * बैठना उसके बस में नहीं
4. * वह बाद में बैठा

Question Number : 183 Question Id : 54592734928 Question Type : MCQ Option Shuffling : Yes
Correct Marks : 1 Wrong Marks : 0.25

निम्न विकल्पों में से निर्देशानुसार वाच्य परिवर्तन का विकल्प चुनिए।

वह अब बैठ नहीं सकता (भाववाच्य)

Options :

1. ✓ उससे अब बैठा नहीं जाता
2. * वह नहीं बैठेगा
3. * बैठना उसके बस में नहीं
4. * वह बाद में बैठा

Question Number : 184 Question Id : 54592734929 Question Type : MCQ Option Shuffling : Yes
Correct Marks : 1 Wrong Marks : 0.25

निम्नलिखित प्रश्न में, चार विकल्पों में से, उस विकल्प का चयन करें जो सही वाक्य भेद का विकल्प है।

जल्दी घर आओ, ऐसा पिता जी ने कहा।

Options :

1. * संयुक्त वाक्य
2. ✓ मिश्र वाक्य

3. * संदेहवाचक वाक्य

4. * संकेतवाचक वाक्य

Question Number : 184 Question Id : 54592734929 Question Type : MCQ Option Shuffling : Yes

Correct Marks : 1 Wrong Marks : 0.25

निम्नलिखित प्रश्न में, चार विकल्पों में से, उस विकल्प का चयन करें जो सही वाक्य भेद का विकल्प है।

जल्दी घर आओ, ऐसा पिता जी ने कहा।

Options :

1. * संयुक्त वाक्य

2. ✓ मिश्र वाक्य

3. * संदेहवाचक वाक्य

4. * संकेतवाचक वाक्य

Question Number : 185 Question Id : 54592734930 Question Type : MCQ Option Shuffling : Yes

Correct Marks : 1 Wrong Marks : 0.25

निम्नलिखित प्रश्न में, चार विकल्पों में से, उस विकल्प का चयन करें जो सही वाक्य भेद का विकल्प है।

बंदर पेड़ की डाल पर बैठा है।

Options :

1. * संयुक्त वाक्य

2. * संकेतवाचक वाक्य

3. * मिश्र वाक्य

4. ✓ सरल वाक्य

Question Number : 185 Question Id : 54592734930 Question Type : MCQ Option Shuffling : Yes

Correct Marks : 1 Wrong Marks : 0.25

निम्नलिखित प्रश्न में, चार विकल्पों में से, उस विकल्प का चयन करें जो सही वाक्य भेद का विकल्प है।

बंदर पेड़ की डाल पर बैठा है।

Options :

1. * संयुक्त वाक्य
2. * संकेतवाचक वाक्य
3. * मिश्र वाक्य
4. ✓ सरल वाक्य

Question Number : 186 Question Id : 54592734931 Question Type : MCQ Option Shuffling : Yes

Correct Marks : 1 Wrong Marks : 0.25

निम्नलिखित प्रश्न में, चार विकल्पों में से, उस विकल्प का चयन करें जो सही वाक्य भेद का विकल्प है।

वह परिश्रम करेगा और सफल हो जाएगा।

Options :

1. ✓ संयुक्त वाक्य
2. * संकेतवाचक वाक्य
3. * मिश्र वाक्य
4. * सरल वाक्य

Question Number : 186 Question Id : 54592734931 Question Type : MCQ Option Shuffling : Yes

Correct Marks : 1 Wrong Marks : 0.25

निम्नलिखित प्रश्न में, चार विकल्पों में से, उस विकल्प का चयन करें जो सही वाक्य भेद का विकल्प है।

वह परिश्रम करेगा और सफल हो जाएगा।

Options :

1. ✓ संयुक्त वाक्य
2. * संकेतवाचक वाक्य
3. * मिश्र वाक्य
4. * सरल वाक्य

Question Number : 187 Question Id : 54592734932 Question Type : MCQ Option Shuffling : Yes
Correct Marks : 1 Wrong Marks : 0.25

निम्नलिखित प्रश्न में, चार विकल्पों में से, उस विकल्प का चयन करें जो शुद्ध वाक्य का सबसे अच्छा विकल्प है।

Options :

1. ✓ इस अस्पताल में आँखों का मुफ्त इलाज होता है
2. * इस अस्पताल में मुफ्त आँखों का इलाज होता है
3. * इलाज होता है मुफ्त आँखों का इस अस्पताल में
4. * आँखों का मुफ्त इलाज होता है इस अस्पताल में

Question Number : 187 Question Id : 54592734932 Question Type : MCQ Option Shuffling : Yes
Correct Marks : 1 Wrong Marks : 0.25

निम्नलिखित प्रश्न में, चार विकल्पों में से, उस विकल्प का चयन करें जो शुद्ध वाक्य का सबसे अच्छा विकल्प है।

Options :

1. ✓ इस अस्पताल में आँखों का मुफ्त इलाज होता है
2. * इस अस्पताल में मुफ्त आँखों का इलाज होता है
3. * इलाज होता है मुफ्त आँखों का इस अस्पताल में
4. * आँखों का मुफ्त इलाज होता है इस अस्पताल में

Question Number : 188 Question Id : 54592734933 Question Type : MCQ Option Shuffling : Yes
Correct Marks : 1 Wrong Marks : 0.25

निम्नलिखित प्रश्न में, चार विकल्पों में से, उस विकल्प का चयन करें जो विराम चिह्न युक्त वाक्य का सही विकल्प है।

Options :

1. * दादा जी ने कहा, मैं यही रहूँगा।

2. ✓ दादा जी ने कहा, "मैं यही रहूँगा।"

3. * दादा जी ने कहा- मैं यही रहूँगा।

4. * दादा जी ने कहा "मैं यही रहूँगा"

Question Number : 188 Question Id : 54592734933 Question Type : MCQ Option Shuffling : Yes

Correct Marks : 1 Wrong Marks : 0.25

निम्नलिखित प्रश्न में, चार विकल्पों में से, उस विकल्प का चयन करें जो विराम चिह्न युक्त वाक्य का सही विकल्प है।

Options :

1. * दादा जी ने कहा, मैं यही रहूँगा।

2. ✓ दादा जी ने कहा, "मैं यही रहूँगा।"

3. * दादा जी ने कहा- मैं यही रहूँगा।

4. * दादा जी ने कहा "मैं यही रहूँगा"

Question Number : 189 Question Id : 54592734934 Question Type : MCQ Option Shuffling : Yes

Correct Marks : 1 Wrong Marks : 0.25

निम्नलिखित प्रश्न में, चार विकल्पों में से, उस विकल्प का चयन करें जो विराम चिह्न युक्त वाक्य का सही विकल्प है।

Options :

1. * मैया मैं नहीं माखन खायो'-"सूरदासा"

2. * मैया मैं नहीं माखन खायो, '-सूरदासा।

3. ✓ मैया मैं नहीं माखन खायो'-सूरदासा।

4. * मैया मैं नहीं माखन खायो सूरदास

Question Number : 189 Question Id : 54592734934 Question Type : MCQ Option Shuffling : Yes

Correct Marks : 1 Wrong Marks : 0.25

निम्नलिखित प्रश्न में, चार विकल्पों में से, उस विकल्प का चयन करें जो विराम चिह्न युक्त वाक्य का सही विकल्प है।

Options :

1. * मैया मैं नहीं माखन खायो'-"सूरदास। "

2. * मैया मैं नहीं माखन खायो, '-सूरदास।

3. ✓ मैया मैं नहीं माखन खायो'-सूरदास।

4. ✘ मैया मैं नहीं माखन खायो सूरदास

Question Number : 190 Question Id : 54592734935 Question Type : MCQ Option Shuffling : Yes

Correct Marks : 1 Wrong Marks : 0.25

निम्नलिखित प्रश्न में, चार विकल्पों में से, उस विकल्प का चयन करें जो विराम चिह्न युक्त वाक्य का सही विकल्प है।

Options :

1. ✘ छि-तुमने तो नाम ही डूबो दिया।

2. ✓ छि! तुमने तो नाम ही डूबो दिया।

3. ✘ छि! तुमने तो नाम ही डूबो दिया

4. ✘ छि! "तुमने तो नाम ही डूबो दिया।"

Question Number : 190 Question Id : 54592734935 Question Type : MCQ Option Shuffling : Yes

Correct Marks : 1 Wrong Marks : 0.25

निम्नलिखित प्रश्न में, चार विकल्पों में से, उस विकल्प का चयन करें जो विराम चिह्न युक्त वाक्य का सही विकल्प है।

Options :

1. ✘ छि-तुमने तो नाम ही डूबो दिया।

2. ✓ छि! तुमने तो नाम ही डूबो दिया।

3. ✘ छि! तुमने तो नाम ही डूबो दिया

4. ✘ छि! "तुमने तो नाम ही डूबो दिया।"

Question Number : 191 Question Id : 54592734936 Question Type : MCQ Option Shuffling : Yes

Correct Marks : 1 Wrong Marks : 0.25

निम्नलिखित प्रश्न में, चार विकल्पों में से, उस विकल्प का चयन करें जो दिए गए रिक्त स्थान के लिए सही मुहावरे वाला विकल्प है।

शेर को सामने देखकर _____ ।

Options :

1. ✓ मेरे प्राण सूख गए

2. * मैं टूट गया
3. * आग बबूला होना
4. * पहाड़ हिलाना

Question Number : 191 Question Id : 54592734936 Question Type : MCQ Option Shuffling : Yes
Correct Marks : 1 Wrong Marks : 0.25

निम्नलिखित प्रश्न में, चार विकल्पों में से, उस विकल्प का चयन करें जो दिए गए रिक्त स्थान के लिए सही मुहावरे वाला विकल्प है।

शेर को सामने देखकर _____ ।

Options :

1. ✓ मेरे प्राण सूख गए
2. * मैं टूट गया
3. * आग बबूला होना
4. * पहाड़ हिलाना

Question Number : 192 Question Id : 54592734937 Question Type : MCQ Option Shuffling : Yes
Correct Marks : 1 Wrong Marks : 0.25

निम्नलिखित प्रश्न में, चार विकल्पों में से, उस विकल्प का चयन करें जो दिए गए रिक्त स्थान के लिए सही मुहावरे वाला विकल्प है।

मकान मालिक की _____ से डरने की ज़रूरत नहीं है।

Options :

1. * गाल बजाना
2. ✓ गीदड़ भष्की
3. * चम्पत हो जाना
4. * खाई पाटना

Question Number : 192 Question Id : 54592734937 Question Type : MCQ Option Shuffling : Yes
Correct Marks : 1 Wrong Marks : 0.25

निम्नलिखित प्रश्न में, चार विकल्पों में से, उस विकल्प का चयन करें जो दिए गए रिक्त स्थान के लिए सही मुहावरे वाला विकल्प है।

मकान मालिक की _____ से डरने की ज़रूरत नहीं है।

Options :

1. * गाल बजाना
2. ✓ गीदड़ भण्की
3. * चम्पत हो जाना
4. * खाई पाटना

Question Number : 193 Question Id : 54592734938 Question Type : MCQ Option Shuffling : Yes

Correct Marks : 1 Wrong Marks : 0.25

निम्नलिखित प्रश्न में, चार विकल्पों में से, उस विकल्प का चयन करें जो दिए गए वाक्यांश के लिए सही लोकोक्ति वाला विकल्प है।

गलती अपनी और धमकाना दूसरों को

Options :

1. ✓ उलटा चोर कोतवाल को डांटे
2. * एक हाथ से ताली नहीं बजती
3. * घर का भेदी लंका ढाए
4. * जिस पत्तल में खाना उसी में छेद करना

Question Number : 193 Question Id : 54592734938 Question Type : MCQ Option Shuffling : Yes

Correct Marks : 1 Wrong Marks : 0.25

निम्नलिखित प्रश्न में, चार विकल्पों में से, उस विकल्प का चयन करें जो दिए गए वाक्यांश के लिए सही लोकोक्ति वाला विकल्प है।

गलती अपनी और धमकाना दूसरों को

Options :

1. ✓ उलटा चोर कोतवाल को डांटे
2. ✖ एक हाथ से ताली नहीं बजती
3. ✖ घर का भेदी लंका ढाए
4. ✖ जिस पत्तल में खाना उसी में छेद करना

Question Number : 194 Question Id : 54592734939 Question Type : MCQ Option Shuffling : Yes
Correct Marks : 1 Wrong Marks : 0.25

निम्नलिखित प्रश्न में, चार विकल्पों में से, उस सही विकल्प का चयन करें जो दिए गए वाक्यांश के लिए सही लोकोक्ति वाला विकल्प है।

जान-बूझकर पाप नहीं किया जाता

Options :

1. ✖ जहाँ चाह वहाँ राह
2. ✖ झूठ के पाँव नहीं होते
3. ✖ पर उपदेश कुशल बहुतेरे
4. ✓ जीती मक्खी नहीं निगली जाती

Question Number : 194 Question Id : 54592734939 Question Type : MCQ Option Shuffling : Yes
Correct Marks : 1 Wrong Marks : 0.25

निम्नलिखित प्रश्न में, चार विकल्पों में से, उस सही विकल्प का चयन करें जो दिए गए वाक्यांश के लिए सही लोकोक्ति वाला विकल्प है।

जान-बूझकर पाप नहीं किया जाता

Options :

1. ✖ जहाँ चाह वहाँ राह
2. ✖ झूठ के पाँव नहीं होते
3. ✖ पर उपदेश कुशल बहुतेरे
4. ✓ जीती मक्खी नहीं निगली जाती

Question Number : 195 Question Id : 54592734940 Question Type : MCQ Option Shuffling : Yes
Correct Marks : 1 Wrong Marks : 0.25

निम्नलिखित प्रश्न में, चार विकल्पों में से, उस सही विकल्प का चयन करें जो दिए गए वाक्यांश के लिए सही लोकोक्ति वाला विकल्प है।

विपक्षी से बढ़कर कौशल दिखाना

Options :

1. ✓ तू डाल-डाल मैं पात-पात
2. * दूध का दूध पानी का पानी
3. * दूर के ढोल सुहावने
4. * बंदर क्या जाने अदरक का स्वाद

Question Number : 195 Question Id : 54592734940 Question Type : MCQ Option Shuffling : Yes
Correct Marks : 1 Wrong Marks : 0.25

निम्नलिखित प्रश्न में, चार विकल्पों में से, उस सही विकल्प का चयन करें जो दिए गए वाक्यांश के लिए सही लोकोक्ति वाला विकल्प है।

विपक्षी से बढ़कर कौशल दिखाना

Options :

1. ✓ तू डाल-डाल मैं पात-पात
2. * दूध का दूध पानी का पानी
3. * दूर के ढोल सुहावने
4. * बंदर क्या जाने अदरक का स्वाद

Sub-Section Number: 2
Sub-Section Id: 5459272076
Question Shuffling Allowed : Yes

Question Id : 54592734941 Question Type : COMPREHENSION Sub Question Shuffling Allowed : Yes Group Comprehension
Questions : No
Question Numbers : (196 to 200)

Question Label : Comprehension

नीचे दिए गये गद्यांश के बाद 5 प्रश्न दिए गये हैं। इस गद्यांश को ध्यानपूर्वक पढ़ें और चार विकल्पों में से प्रत्येक प्रश्न का सर्वोत्तम उत्तर चुनें।

नैतिक शिक्षा व्यक्ति को सद्भावहार, सदाचार का आधार तो प्रदान करती ही है, उसे मन और आत्मा की उज्वलता भी प्रदान करती है। यह उज्वलता ही व्यक्ति को वह प्रकाश देती है जिसकी छाया में वह अपने साथ-साथ सभी का हित-साधन कर सकता है।

नैतिक शिक्षा व्यक्ति को जीवन की स्वस्थ परंपराओं के प्रति आस्थावान बनाती है, उसकी जीवन-दृष्टि को उज्वलता और विशालता प्रदान करती है और मानव की सहज संवेदना को जगाकर जीवन को सही दृष्टि से देखने की प्रेरणा देती है। वह व्यक्ति को संसार के व्यर्थ के झमेलों से दूर रखती है। वह नैतिक शिक्षा ही है कि जिसके प्रकाश में व्यक्ति कुरीतियों, आडंबरो, पाखंडों, अनैतिकताओं आदि का ज्ञान प्राप्त कर इन सभी अराजक और विरोधी तत्त्वों के सामने डटकर खड़ा हो सकता है। नैतिक शिक्षा व्यक्ति में दूसरे व्यक्तियों के सुख-दुख के साथ अपनत्व का संचार तो करती ही है, अपने देश की मिट्टी की सौंधी सुगंध के साथ जोड़कर राष्ट्रीयता की भावना को भी उजागर करती है। नैतिक मानों-मूल्यों को पहचानने और उन पर विश्वास करने वाला व्यक्ति ही अनेक प्रकार के भ्रष्टाचारों से स्वयं बचकर अपने समाज, देश और राष्ट्र को भी उस प्रकार की बुराइयों से बचा सकता है।

Sub questions

Question Number : 196 Question Id : 54592734942 Question Type : MCQ Option Shuffling : Yes

Correct Marks : 1 Wrong Marks : 0.25

मन और आत्मा की उज्वलता किससे प्राप्त की जा सकती है?

Options :

1. * सादे जीवन से
2. * सद्भावहार
3. ✓ नैतिक शिक्षा
4. * सदाचार

Question Number : 197 Question Id : 54592734943 Question Type : MCQ Option Shuffling : Yes

Correct Marks : 1 Wrong Marks : 0.25

नैतिक शिक्षा किसके प्रति आस्था से युक्त बनाती है?

Options :

1. * व्यक्ति के प्रति

2. * समाज के प्रति
3. * स्वयं के प्रति
4. ✓ जीवन की स्वस्थ परंपरा

Question Number : 198 Question Id : 54592734944 Question Type : MCQ Option Shuffling : Yes
Correct Marks : 1 Wrong Marks : 0.25

नैतिक शिक्षा के प्रकाश में व्यक्ति क्या कर गुजरता है?

Options :

1. * विरोधी तत्त्वों से पीछा छुड़ाना
2. ✓ विरोधी तत्त्वों का डटकर सामना
3. * किसी से भी झगड़ा
4. * विरोधी तत्त्वों को अपनाना

Question Number : 199 Question Id : 54592734945 Question Type : MCQ Option Shuffling : Yes
Correct Marks : 1 Wrong Marks : 0.25

इनमें से कौन - सा भ्रष्टाचार का पर्यायवाची नहीं है?

Options :

1. * निंदनीय आचार
2. * भ्रष्ट आचार
3. ✓ नैतिक आचरण
4. * अनैतिक आचरण

Question Number : 200 Question Id : 54592734946 Question Type : MCQ Option Shuffling : Yes
Correct Marks : 1 Wrong Marks : 0.25

इस अनुच्छेद का कोई उपयुक्त शीर्षक:

Options :

1. ✓ नैतिक शिक्षा
2. * भ्रष्टाचार
3. * विरोधी तत्त्व
4. * जीवन की समस्याएँ

Question Id : 54592734941 Question Type : COMPREHENSION Sub Question Shuffling Allowed : Yes Group Comprehension
Questions : No

Question Numbers : (196 to 200)

Question Label : Comprehension

नीचे दिए गये गद्यांश के बाद 5 प्रश्न दिए गये हैं। इस गद्यांश को ध्यानपूर्वक पढ़ें और चार विकल्पों में से प्रत्येक प्रश्न का सर्वोत्तम उत्तर चुनें।

नैतिक शिक्षा व्यक्ति को सद्व्यवहार, सदाचार का आधार तो प्रदान करती ही है, उसे मन और आत्मा की उज्ज्वलता भी प्रदान करती है। यह उज्ज्वलता ही व्यक्ति को वह प्रकाश देती है जिसकी छाया में वह अपने साथ-साथ सभी का हित-साधन कर सकता है। नैतिक शिक्षा व्यक्ति को जीवन की स्वस्थ परंपराओं के प्रति आस्थावान बनाती है, उसकी जीवन-दृष्टि को उज्ज्वलता और विशालता प्रदान करती है और मानव की सहज संवेदना को जगाकर जीवन को सही दृष्टि से देखने की प्रेरणा देती है। वह व्यक्ति को संसार के व्यर्थ के झमेलों से दूर रखती है। वह नैतिक शिक्षा ही है कि जिसके प्रकाश में व्यक्ति कुरीतियों, आडंबरों, पाखंडों, अनैतिकताओं आदि का ज्ञान प्राप्त कर इन सभी अराजक और विरोधी तत्त्वों के सामने डटकर खड़ा हो सकता है। नैतिक शिक्षा व्यक्ति में दूसरे व्यक्तियों के सुख-दुख के साथ अपनत्व का संचार तो करती ही है, अपने देश की मिट्टी की सोंधी सुगंध के साथ जोड़कर राष्ट्रीयता की भावना को भी उजागर करती है। नैतिक मानों-मूल्यों को पहचानने और उन पर विश्वास करने वाला व्यक्ति ही अनेक प्रकार के भ्रष्टाचारों से स्वयं बचकर अपने समाज, देश और राष्ट्र को भी उस प्रकार की बुराइयों से बचा सकता है।

Sub questions

Question Number : 196 Question Id : 54592734942 Question Type : MCQ Option Shuffling : Yes
Correct Marks : 1 Wrong Marks : 0.25

मन और आत्मा की उज्ज्वलता किससे प्राप्त की जा सकती है?

Options :

1. * सादे जीवन से
2. * सद्व्यवहार
3. ✓ नैतिक शिक्षा
4. * सदाचार

Question Number : 197 Question Id : 54592734943 Question Type : MCQ Option Shuffling : Yes
Correct Marks : 1 Wrong Marks : 0.25

नैतिक शिक्षा किसके प्रति आस्था से युक्त बनाती है?

Options :

1. * व्यक्ति के प्रति
2. * समाज के प्रति
3. * स्वयं के प्रति
4. ✓ जीवन की स्वस्थ परंपरा

Question Number : 198 Question Id : 54592734944 Question Type : MCQ Option Shuffling : Yes
Correct Marks : 1 Wrong Marks : 0.25

नैतिक शिक्षा के प्रकाश में व्यक्ति क्या कर गुजरता है?

Options :

1. * विरोधी तत्त्वों से पीछा छुड़ाना
2. ✓ विरोधी तत्त्वों का डटकर सामना
3. * किसी से भी झगड़ा
4. * विरोधी तत्त्वों को अपनाना

Question Number : 199 Question Id : 54592734945 Question Type : MCQ Option Shuffling : Yes
Correct Marks : 1 Wrong Marks : 0.25

इनमें से कौन - सा भ्रष्टाचार का पर्यायवाची नहीं है?

Options :

1. * निंदनीय आचार
2. * भ्रष्ट आचार
3. ✓ नैतिक आचरण
4. * अनैतिक आचरण

Question Number : 200 Question Id : 54592734946 Question Type : MCQ Option Shuffling : Yes
Correct Marks : 1 Wrong Marks : 0.25

इस अनुच्छेद का कोई उपयुक्त शीर्षक:

Options :

1. ✓ नैतिक शिक्षा
2. * भ्रष्टाचार
3. * विरोधी तत्त्व
4. * जीवन की समस्याएँ