

Education Consultant India Ltd.

Notations :

1.Options shown in green color and with ✓ icon are correct.

2.Options shown in red color and with ✗ icon are incorrect.

Question Paper Name:	Lower Division Clerk 16th September 2019 Shift 1
Subject Name:	LOWER DIVISION CLERK
Creation Date:	2019-09-16 11:28:00
Duration:	120
Total Marks:	200
Display Marks:	Yes
Share Answer Key With Delivery Engine:	No
Actual Answer Key:	Yes
Calculator:	None
Magnifying Glass Required?:	No
Ruler Required?:	No
Eraser Required?:	No
Scratch Pad Required?:	No
Rough Sketch/Notepad Required?:	No
Protractor Required?:	No
Show Watermark on Console?:	Yes
Highlighter:	No
Auto Save on Console?:	No

Mental Ability1

Group Number :	1
Group Id :	5459271601
Group Maximum Duration :	0
Group Minimum Duration :	0
Show Attended Group? :	No
Edit Attended Group? :	No
Break time:	0
Group Marks:	20
Is this Group for Examiner?:	No
Revisit allowed for group Instructions? :	Yes
Maximum Instruction Time:	0
Minimum Instruction Time:	0

Mental Ability1

Section Id :	5459271601
Section Number :	1

Section type :	Online
Mandatory or Optional:	Mandatory
Number of Questions:	20
Number of Questions to be attempted:	20
Section Marks:	20

Sub-Section Number:	1
Sub-Section Id:	5459271921
Question Shuffling Allowed :	Yes

Question Number : 1 Question Id : 54592732321 Question Type : MCQ Option Shuffling : Yes
Correct Marks : 1 Wrong Marks : 0.25

Find the missing term in the following letter series:

FM, LS, _____, XE

Options :

1. ✘ RZ
2. ✘ PW
3. ✘ SZ
4. ✔ RY

Question Number : 1 Question Id : 54592732321 Question Type : MCQ Option Shuffling : Yes
Correct Marks : 1 Wrong Marks : 0.25

निम्नलिखित अक्षर श्रृंखला में लुप्त पद ज्ञात करें:

FM, LS, _____, XE

Options :

1. ✘ RZ
2. ✘ PW
3. ✘ SZ
4. ✔ RY

Question Number : 2 Question Id : 54592732322 Question Type : MCQ Option Shuffling : Yes
Correct Marks : 1 Wrong Marks : 0.25

Find the missing term in the following series:

J5H, M2K, _____, S-4Q

Options :

1. ✖ P1N
2. ✖ S-2M
3. ✔ P-1N
4. ✖ R1M

Question Number : 2 Question Id : 54592732322 Question Type : MCQ Option Shuffling : Yes
Correct Marks : 1 Wrong Marks : 0.25

निम्नलिखित अक्षर श्रृंखला में लुप्त पद ज्ञात करें:

J5H, M2K, _____, S-4Q

Options :

1. ✖ P1N
2. ✖ S-2M
3. ✔ P-1N
4. ✖ R1M

Question Number : 3 Question Id : 54592732323 Question Type : MCQ Option Shuffling : Yes
Correct Marks : 1 Wrong Marks : 0.25

Find the wrong term in the following series:

MOQ, JLM, GIK, DFH, ACE

Options :

1. ✖ DFH
2. ✖ GIK
3. ✔ JLM

4. * ACE

Question Number : 3 Question Id : 54592732323 Question Type : MCQ Option Shuffling : Yes
Correct Marks : 1 Wrong Marks : 0.25

निम्नलिखित श्रृंखला में गलत पद ज्ञात करें:

MOQ, JLM, GIK, DFH, ACE

Options :

1. * DFH

2. * GIK

3. ✓ JLM

4. * ACE

Question Number : 4 Question Id : 54592732324 Question Type : MCQ Option Shuffling : Yes
Correct Marks : 1 Wrong Marks : 0.25

Out of the given options, three are similar in a certain manner. However, one option is NOT like the other three. Select the option which is different from the rest.

Options :

1. * Zoology

2. * Botany

3. * Physics

4. ✓ History

Question Number : 4 Question Id : 54592732324 Question Type : MCQ Option Shuffling : Yes
Correct Marks : 1 Wrong Marks : 0.25

दिए गए विकल्पों में से, तीन एक निश्चित तरीके से समान हैं। हालाँकि, एक विकल्प अन्य तीन की तरह नहीं है। उस विकल्प का चयन करें जो बाकी से अलग है।

Options :

1. ✖ प्राणिविज्ञान
2. ✖ वनस्पति विज्ञान
3. ✖ भौतिकी
4. ✔ इतिहास

Question Number : 5 Question Id : 54592732325 Question Type : MCQ Option Shuffling : Yes
Correct Marks : 1 Wrong Marks : 0.25

Out of the given options, three are similar in a certain manner. However, one option is NOT like the other three. Select the option which is different from the rest.

Options :

1. ✖ PMJ
2. ✖ WTQ
3. ✖ LIF
4. ✔ ZWS

Question Number : 5 Question Id : 54592732325 Question Type : MCQ Option Shuffling : Yes
Correct Marks : 1 Wrong Marks : 0.25

दिए गए विकल्पों में से, तीन एक निश्चित तरीके से समान हैं। हालाँकि, एक विकल्प अन्य तीन की तरह नहीं है। उस विकल्प का चयन करें जो बाकी से अलग है।

Options :

1. ✖ PMJ
2. ✖ WTQ
3. ✖ LIF
4. ✔ ZWS

Question Number : 6 Question Id : 54592732326 Question Type : MCQ Option Shuffling : Yes
Correct Marks : 1 Wrong Marks : 0.25

In the given options 3 pair of words are similarly related and one pair is differently related. Find the pair which is differently related.

Options :

1. * Zeal : Passion
2. * Insignia : Symbol
3. ✓ Mirage : Reality
4. * Zenith : Top

Question Number : 6 Question Id : 54592732326 Question Type : MCQ Option Shuffling : Yes

Correct Marks : 1 Wrong Marks : 0.25

दिए गए विकल्पों में 3 शब्दों के जोड़े एकसमान संबंधित हैं और एक जोड़ी अलग तरह से संबंधित है। उस जोड़ी को ज्ञात करें जो अलग तरह से संबंधित है।

Options :

1. * उत्साह : जुनून
2. * राजचिह्न : प्रतीक
3. ✓ मृगतृष्णा : वास्तविकता
4. * शीर्षबिंदु : शीर्ष

Question Number : 7 Question Id : 54592732327 Question Type : MCQ Option Shuffling : Yes

Correct Marks : 1 Wrong Marks : 0.25

Select the option that is related to the third term on the same basis as the second term is related to the first term.

Monk : Nun :: Bachelor : ?

Options :

1. * Man
2. ✓ Spinster
3. * Woman

4. * Party

Question Number : 7 Question Id : 54592732327 Question Type : MCQ Option Shuffling : Yes
Correct Marks : 1 Wrong Marks : 0.25

उस विकल्प का चयन करें जो तीसरे पद से उसी प्रकार से संबंधित है जिस प्रकार से पहला पद दूसरे पद से संबंधित है।

साधु : तपस्विन :: कुंवारा : ?

Options :

1. * आदमी
2. ✓ कुंवारी कन्या
3. * महिला
4. * पार्टी

Question Number : 8 Question Id : 54592732328 Question Type : MCQ Option Shuffling : Yes
Correct Marks : 1 Wrong Marks : 0.25

Select the option that is related to the third term on the same basis as the second term is related to the first term.

GNQ : JQT :: EKU : ?

Options :

1. * HJY
2. * EMU
3. * ENX
4. ✓ HNX

Question Number : 8 Question Id : 54592732328 Question Type : MCQ Option Shuffling : Yes
Correct Marks : 1 Wrong Marks : 0.25

उस विकल्प का चयन करें जो तीसरे पद से उसी प्रकार से संबंधित है जिस प्रकार से पहला पद दूसरे पद से संबंधित है।

GNQ : JQT :: EKU : ?

Options :

1. ✖ HJY
2. ✖ EMU
3. ✖ ENX
4. ✔ HNX

Question Number : 9 Question Id : 54592732329 Question Type : MCQ Option Shuffling : Yes
Correct Marks : 1 Wrong Marks : 0.25

Select the pair that is related on the same basis to the pair given in the question.

JPD : OKI :: ?

Options :

1. ✖ SEM : WZR
2. ✖ PCO : XZR
3. ✔ RDL : WYQ
4. ✖ REM : XZS

Question Number : 9 Question Id : 54592732329 Question Type : MCQ Option Shuffling : Yes
Correct Marks : 1 Wrong Marks : 0.25

उस जोड़ी का चयन करें जो उसी आधार पर संबंधित हों, जिस आधार पर सवाल में दी गई जोड़ी संबंधित हैं।

JPD : OKI :: ?

Options :

1. ✖ SEM : WZR

2. ✖ PCO : XZR

3. ✔ RDL : WYQ

4. ✖ REM : XZS

Question Number : 10 Question Id : 54592732330 Question Type : MCQ Option Shuffling : Yes

Correct Marks : 1 Wrong Marks : 0.25

If TRUNK is coded as 29352, then what is the code for VAIN?

Options :

1. ✖ 4182

2. ✖ 3215

3. ✔ 4195

4. ✖ 4134

Question Number : 10 Question Id : 54592732330 Question Type : MCQ Option Shuffling : Yes

Correct Marks : 1 Wrong Marks : 0.25

यदि TRUNK को 29352 के रूप में कोडित किया जाता है, तो VAIN का कोड क्या है?

Options :

1. ✖ 4182

2. ✖ 3215

3. ✔ 4195

4. ✖ 4134

Question Number : 11 Question Id : 54592732331 Question Type : MCQ Option Shuffling : Yes

Correct Marks : 1 Wrong Marks : 0.25

If white is called orange, orange is called pink, pink is called blue, blue is called black, black is called yellow, yellow is called red, then what is the colour of clear sky?

Options :

1. * yellow
2. * red
3. * blue
4. ✓ black

Question Number : 11 Question Id : 54592732331 Question Type : MCQ Option Shuffling : Yes
Correct Marks : 1 Wrong Marks : 0.25

यदि सफेद को नारंगी कहा जाए, नारंगी को गुलाबी कहा जाए, गुलाबी को नीला कहा जाए, नीले को काला कहा जाए, काले को पीला कहा जाए, पीले को लाल कहा जाए, तो साफ आसमान का रंग क्या है?

Options :

1. * पीला
2. * लाल
3. * नीला
4. ✓ काला

Question Number : 12 Question Id : 54592732332 Question Type : MCQ Option Shuffling : Yes
Correct Marks : 1 Wrong Marks : 0.25

In a certain code language,

'marks in group discussion' is coded as 'yi ai ni ji'

'marks in interview' is coded as 'ni ji ti'

'interview assistant manager' is coded as 'ti pi mi'

'referred to executive manager' is coded as 'pi ci ri di li'

What is the word that is coded as ti?

Options :

1. ✓ interview
2. * assistant
3. * manager
4. * marks

Question Number : 12 Question Id : 54592732332 Question Type : MCQ Option Shuffling : Yes
Correct Marks : 1 Wrong Marks : 0.25

एक निश्चित कोड भाषा में,

'marks in group discussion' का कोड है 'yi ai ni ji'

'marks in interview' का कोड है 'ni ji ti'

'interview assistant manager' का कोड है 'ti pi mi'

'referred to executive manager' का कोड है 'pi ci ri di li'

वह शब्द क्या है जिसे ti के रूप में कोडित किया गया है?

Options :

1. ✓ interview
2. ✗ assistant
3. ✗ manager
4. ✗ marks

Question Number : 13 Question Id : 54592732333 Question Type : MCQ Option Shuffling : Yes
Correct Marks : 1 Wrong Marks : 0.25

Four friends — A, B, C and D are sitting in a row facing the same direction. A is sitting next to B but not next to C. D, who is sitting at the farthest right, is not sitting next to B or C. Who among these friends is sitting at the farthest left?

Options :

1. ✓ C
2. ✗ A
3. ✗ B
4. ✗ D

Question Number : 13 Question Id : 54592732333 Question Type : MCQ Option Shuffling : Yes
Correct Marks : 1 Wrong Marks : 0.25

चार मित्र - A, B, C और D एक पंक्ति में बैठे हैं। ये चारों एक ही दिशा में देख रहे हैं। A, B के बगल में बैठा है, लेकिन C के बगल में नहीं, D के बगल में, जो सबसे दाईं ओर बैठा है, B या C के बगल में नहीं बैठा है, इन मित्रों में से कौन सबसे बाईं ओर बैठा है?

Options :

1. ✓ C
2. ✗ A
3. ✗ B
4. ✗ D

Question Number : 14 Question Id : 54592732334 Question Type : MCQ Option Shuffling : Yes

Correct Marks : 1 Wrong Marks : 0.25

A metal trader weighed five metals — G, S, N, C and B. And found that:

G weighed four times as much as C.

S weighed thrice as much as B.

N weighed half as much as S.

C weighed twice as much as B.

Which is the lightest among the given metals?

Options :

1. ✗ C
2. ✗ S
3. ✗ N
4. ✓ B

Question Number : 14 Question Id : 54592732334 Question Type : MCQ Option Shuffling : Yes

Correct Marks : 1 Wrong Marks : 0.25

एक धातु व्यापारी ने पांच धातुओं - G, S, N, C और B का वजन किया और पाया की:

G का वजन C से चार गुना ज्यादा है।

S का वजन B का तिगुना है।

N का वजन S का आधा है।

C का वजन B से दोगुना है।

दिए गए धातुओं में सबसे हल्का कौन-सा है?

Options :

1. ✖ C

2. ✖ S

3. ✖ N

4. ✔ B

Question Number : 15 Question Id : 54592732335 Question Type : MCQ Option Shuffling : Yes
Correct Marks : 1 Wrong Marks : 0.25

Out of the given options, three are similar in a certain manner. However, one option is NOT like the other three. Select the option which is different from the rest.

Options :

1. ✔ Synagogue

2. ✖ Torah

3. ✖ Tripitaka

4. ✖ Zend-avesta

Question Number : 15 Question Id : 54592732335 Question Type : MCQ Option Shuffling : Yes
Correct Marks : 1 Wrong Marks : 0.25

दिए गए विकल्पों में से, तीन एक निश्चित तरीके से समान हैं। हालाँकि, एक विकल्प अन्य तीन की तरह नहीं है। उस विकल्प का चयन करें जो बाकी से अलग है।

Options :

1. ✓ आराधनालय
2. ✗ टोरा
3. ✗ त्रिपिटक
4. ✗ ज़ेंद - अवेस्ता

Question Number : 16 Question Id : 54592732336 Question Type : MCQ Option Shuffling : Yes

Correct Marks : 1 Wrong Marks : 0.25

Select the option that arranges the words given below in the most appropriate and meaningful sequence.

1. State
2. House No.
3. Colony
4. District
5. Town / City

Options :

1. ✗ 2-4-1-5-3
2. ✓ 2-3-5-4-1
3. ✗ 2-1-4-3-5
4. ✗ 5-1-4-2-3

Question Number : 16 Question Id : 54592732336 Question Type : MCQ Option Shuffling : Yes

Correct Marks : 1 Wrong Marks : 0.25

नीचे दिए गए शब्दों को सबसे उपयुक्त और सार्थक अनुक्रम में व्यवस्थित करने वाले विकल्प का चयन करें।

1. State
2. House No.
3. Colony
4. District
5. Town / City

Options :

1. ✖ 2-4-1-5-3
2. ✔ 2-3-5-4-1
3. ✖ 2-1-4-3-5
4. ✖ 5-1-4-2-3

Question Number : 17 Question Id : 54592732337 Question Type : MCQ Option Shuffling : Yes
Correct Marks : 1 Wrong Marks : 0.25

Analyse the given information and answer the question that follows.

The criteria for selecting a Branch Manager have been given as under:

The candidate must:

1. Be a graduate in any stream with at least 50 percent marks.
2. Be an MBA or hold a post-graduate diploma in any stream of management with 50 percent marks
3. Be between 30 and 45 years old on the date of application
4. Have branch managing experience of more than 3 years

The following exceptions apply:

- A. If a candidate meets all other criteria except 4 above, the candidate will be referred to the General Manager.
- B. A candidate whose age is more than 45 years but less than 50 years will be referred to the HR Head.

Balappa Kambar is a B.A. in English with post-graduation in Human Resources Management. He has scored more than 62 percent in graduation and 69 percent in post-graduation. He is 47 years of age. He has successfully managed a branch for more than 8 years.

What decision should be taken about this candidate?

Options :

1. * The candidate should be selected.
2. * The candidate should be rejected.
3. * The candidate should be referred to the General Manager.

4. ✓ The candidate should be referred to the HR Head.

Question Number : 17 Question Id : 54592732337 Question Type : MCQ Option Shuffling : Yes

Correct Marks : 1 Wrong Marks : 0.25

दी गई जानकारी का विश्लेषण करें और उस प्रश्न का उत्तर दें जो निम्न प्रकार है।

एक शाखा प्रबंधक के चयन के मानदंड निम्नानुसार दिए गए हैं:

उम्मीदवार को चाहिए:

1. कम से कम 50 प्रतिशत अंकों के साथ किसी भी स्ट्रीम में स्नातक हो।
2. MBA हो या 50 प्रतिशत अंकों के साथ मैनेजमेंट की किसी भी स्ट्रीम में स्नातकोत्तर डिप्लोमा हो।
3. आवेदन की तिथि 30 से 45 वर्ष के बीच हो।
4. 3 से अधिक वर्षों का शाखा प्रबंधन का अनुभव हो।

निम्नलिखित अपवाद लागू होते हैं:

- A. यदि कोई उम्मीदवार उपरोक्त 4 को छोड़कर अन्य सभी मानदंडों को पूरा करता है, तो उम्मीदवार को महाप्रबंधक के पास भेजा जाएगा।
- B. एक उम्मीदवार जिसकी आयु 45 वर्ष से अधिक है, लेकिन 50 वर्ष से कम है, को HR मुखिया के पास भेजा जाएगा।

बलप्पा कंबर मानव संसाधन प्रबंधन में स्नातकोत्तर के साथ अंग्रेजी में बी.ए. हैं। उसने स्नातक में 62 प्रतिशत से अधिक और स्नातकोत्तर में 69 प्रतिशत अंक प्राप्त किए हैं। उसकी उम्र 47 वर्ष है। उसने 8 से अधिक वर्षों के लिए सफलतापूर्वक एक शाखा का प्रबंधन किया है।

इस उम्मीदवार के बारे में क्या निर्णय लिया जाना चाहिए?

Options :

1. * उम्मीदवार का चयन होना चाहिए।
2. * उम्मीदवार को खारिज कर दिया जाना चाहिए।
3. * उम्मीदवार को महाप्रबंधक के पास भेजा जाना चाहिए।
4. ✓ उम्मीदवार को HR मुखिया के पास भेजा जाना चाहिए।

Question Number : 18 Question Id : 54592732338 Question Type : MCQ Option Shuffling : Yes
Correct Marks : 1 Wrong Marks : 0.25

In this question, two statements have been given followed by two conclusions numbered I and II. Assuming that all information in the statement is true, analyse the two conclusions together and determine whether any of them logically and definitely follow(s) from the information given in the statement.

Statements:

- I. All mangoes are grapes.
- II. All grapes are apples.

Conclusions:

- I. Some apples are grapes.
- II. Some apples are mangoes.

Options :

1. * Only conclusion I follows
2. * Only conclusion II follows
3. ✓ Both I and II follow
4. * Neither I nor II follows

Question Number : 18 Question Id : 54592732338 Question Type : MCQ Option Shuffling : Yes
Correct Marks : 1 Wrong Marks : 0.25

इस प्रश्न में, दो कथन I और II के दो निष्कर्ष दिए गए हैं। यह मानते हुए कि कथन में सभी जानकारी सत्य हैं, दो निष्कर्षों का एक साथ विश्लेषण करें और निर्धारित करें कि कथन में दी गई जानकारी में से कोई भी तार्किक रूप से और निश्चित रूप से अनुसरण करता है।

कथन:

- I. सभी आम अंगूर हैं।
- II. सभी अंगूर सेब हैं।

निष्कर्ष:

- I. कुछ सेब अंगूर हैं।
- II. कुछ सेब आम हैं।

Options :

1. ✖ केवल निष्कर्ष I अनुसरण करता है
2. ✖ केवल निष्कर्ष II अनुसरण करता है
3. ✔ दोनों निष्कर्ष I और II अनुसरण करते हैं
4. ✖ न तो I और न ही II अनुसरण करता है

Question Number : 19 Question Id : 54592732339 Question Type : MCQ Option Shuffling : Yes

Correct Marks : 1 Wrong Marks : 0.25

In this question, a statement has been given, followed by two assumptions numbered I and II. Analyse the two assumptions together and determine which of them is/are implicit in the statement.

Statements:

I. A smartphone does not make you smart.

Assumptions:

I. Owning a smart phone does not essentially make the owner smart; one has to know how to operate the phone and use it wisely.

II. A tool or device cannot make the human being smart; to be smart, one has to possess traits of smartness oneself.

Options :

1. ✖ Only assumption I is implicit.
2. ✖ Only assumption II is implicit.
3. ✖ Neither assumption I nor assumption II is implicit.
4. ✔ Both the assumptions are implicit.

Question Number : 19 Question Id : 54592732339 Question Type : MCQ Option Shuffling : Yes

Correct Marks : 1 Wrong Marks : 0.25

इस प्रश्न में, एक कथन दिया गया है, जिसके बाद I और II की दो धारणाएँ हैं। एक साथ दोनों धारणाओं का विश्लेषण करें और निर्धारित करें कि उनमें से कौन सा/से कथन में निहित है।

कथन:

I. एक स्मार्टफोन आपको स्मार्ट नहीं बनाता है।

धारणाएँ:

I. स्मार्ट फोन के मालिक को अनिवार्य रूप से मालिक को स्मार्ट नहीं बनाता है; फोन को संचालित करने और इसे बुद्धिमानी से उपयोग करने का तरीका जानना होगा।

II. एक साधन या उपकरण इंसान को स्मार्ट नहीं बना सकता; स्मार्ट बनने के लिए, व्यक्ति को स्मार्टनेस के गुण रखने होंगे।

Options :

1. * केवल धारणा I निहित है।
2. * केवल धारणा II निहित है।
3. * न तो धारणा I और न ही धारणा II निहित है।
4. ✓ दोनों धारणाएँ निहित हैं।

Question Number : 20 Question Id : 54592732340 Question Type : MCQ Option Shuffling : Yes
Correct Marks : 1 Wrong Marks : 0.25

Complete the following number series:

19, 23, 28, 34, _____

Options :

1. ✓ 41
2. * 43

3. ✖ 48

4. ✖ 49

Question Number : 20 Question Id : 54592732340 Question Type : MCQ Option Shuffling : Yes

Correct Marks : 1 Wrong Marks : 0.25

निम्नलिखित संख्या श्रृंखला को पूरा करें:

19, 23, 28, 34, _____

Options :

1. ✔ 41

2. ✖ 43

3. ✖ 48

4. ✖ 49

Mental Ability2

Group Number :	2
Group Id :	5459271602
Group Maximum Duration :	0
Group Minimum Duration :	0
Show Attended Group? :	No
Edit Attended Group? :	No
Break time:	0
Group Marks:	20
Is this Group for Examiner?:	No
Revisit allowed for group Instructions? :	Yes
Maximum Instruction Time:	0
Minimum Instruction Time:	0

Mental Ability2

Section Id :	5459271602
Section Number :	1
Section type :	Online
Mandatory or Optional:	Mandatory
Number of Questions:	20
Number of Questions to be attempted:	20
Section Marks:	20

Sub-Section Number: 1
Sub-Section Id: 5459271922
Question Shuffling Allowed : Yes

Question Number : 21 Question Id : 54592732341 Question Type : MCQ Option Shuffling : Yes
Correct Marks : 1 Wrong Marks : 0.25

Find the wrong number in the following number series:

8, 15, 22, 30, 36

Options :

1. ✖ 15
2. ✖ 22
3. ✔ 30
4. ✖ 36

Question Number : 21 Question Id : 54592732341 Question Type : MCQ Option Shuffling : Yes
Correct Marks : 1 Wrong Marks : 0.25

निम्नलिखित संख्या श्रृंखला में से गलत संख्या ज्ञात करें:

8, 15, 22, 30, 36

Options :

1. ✖ 15
2. ✖ 22
3. ✔ 30
4. ✖ 36

Question Number : 22 Question Id : 54592732342 Question Type : MCQ Option Shuffling : Yes
Correct Marks : 1 Wrong Marks : 0.25

Select the option that is related to the third number on the same basis as the second number is related to the first number.

12 : 156 :: 23 : ?

Options :

1. ✖ 456

2. ✖ 432

3. ✖ 506

4. ✔ 552

Question Number : 22 Question Id : 54592732342 Question Type : MCQ Option Shuffling : Yes

Correct Marks : 1 Wrong Marks : 0.25

उस विकल्प का चयन करें जो तीसरी संख्या से उसी प्रकार से संबंधित है जिस प्रकार से पहली संख्या दूसरी संख्या से संबंधित है।

12 : 156 :: 23 : ?

Options :

1. ✖ 456

2. ✖ 432

3. ✖ 506

4. ✔ 552

Question Number : 23 Question Id : 54592732343 Question Type : MCQ Option Shuffling : Yes

Correct Marks : 1 Wrong Marks : 0.25

Select the option that is related to the third number on the same basis as the second number is related to the first number.

5 : 24 :: 16 : ?

Options :

1. ✖ 90
2. ✔ 255
3. ✖ 256
4. ✖ 280

Question Number : 23 Question Id : 54592732343 Question Type : MCQ Option Shuffling : Yes
Correct Marks : 1 Wrong Marks : 0.25

उस विकल्प का चयन करें जो तीसरी संख्या से उसी प्रकार से संबंधित है जिस प्रकार से पहली संख्या दूसरी संख्या से संबंधित है।

5 : 24 :: 16 : ?

Options :

1. ✖ 90
2. ✔ 255
3. ✖ 256
4. ✖ 280

Question Number : 24 Question Id : 54592732344 Question Type : MCQ Option Shuffling : Yes
Correct Marks : 1 Wrong Marks : 0.25

Find the missing number in the following number series.

90, 39, _____, -63, -114

Options :

1. ✖ -15

2. ✓ -12

3. ✗ 12

4. ✗ 15

Question Number : 24 Question Id : 54592732344 Question Type : MCQ Option Shuffling : Yes
Correct Marks : 1 Wrong Marks : 0.25

निम्नलिखित संख्या श्रृंखला में लुप्त संख्या को ज्ञात करें।

90, 39, _____, -63, -114

Options :

1. ✗ -15

2. ✓ -12

3. ✗ 12

4. ✗ 15

Question Number : 25 Question Id : 54592732345 Question Type : MCQ Option Shuffling : Yes
Correct Marks : 1 Wrong Marks : 0.25

Find the missing number in the following number series.

350, 450, _____, 575, 600

Options :

1. ✓ 525

2. ✗ 500

3. ✗ 510

4. ✗ 475

Question Number : 25 Question Id : 54592732345 Question Type : MCQ Option Shuffling : Yes
Correct Marks : 1 Wrong Marks : 0.25

निम्नलिखित संख्या श्रृंखला में लुप्त संख्या को ज्ञात करें।

350, 450, _____, 575, 600

Options :

1. ✓ 525

2. ✗ 500

3. ✗ 510

4. ✗ 475

Question Number : 26 Question Id : 54592732346 Question Type : MCQ Option Shuffling : Yes

Correct Marks : 1 Wrong Marks : 0.25

If $(x - 11) > (y - 6) + 3$, then which among the following is true?

Options :

1. ✓ $(x - y) > 8$

2. ✗ $(x - y) > 9$

3. ✗ $(x - y) < 8$

4. ✗ $(x - y) < 9$

Question Number : 26 Question Id : 54592732346 Question Type : MCQ Option Shuffling : Yes

Correct Marks : 1 Wrong Marks : 0.25

यदि $(x - 11) > (y - 6) + 3$ है , तो निम्नलिखित में से कौन सा सत्य है?

Options :

1. ✓ $(x - y) > 8$

2. ✗ $(x - y) > 9$

3. ✗ $(x - y) < 8$

4. ✗ $(x - y) < 9$

Question Number : 27 Question Id : 54592732347 Question Type : MCQ Option Shuffling : Yes

Correct Marks : 1 Wrong Marks : 0.25

The 25 students of a school decided to play a tennis tournament. Every time a member loses a game he is out of the tournament. There are no ties. What is the minimum number of matches that must be played to determine the winner?

Options :

1. ✓ 24

2. ✗ 5

3. ✗ 26

4. ✗ 10

Question Number : 27 Question Id : 54592732347 Question Type : MCQ Option Shuffling : Yes

Correct Marks : 1 Wrong Marks : 0.25

एक स्कूल के 25 छात्रों ने एक टेनिस टूर्नामेंट खेलने का फैसला किया। हर बार जब कोई सदस्य खेल से हार जाता है तो वह टूर्नामेंट से बाहर हो जाता है। कोई टाय नहीं है। विजेता को निर्धारित करने के लिए कितने मैच खेले जाने चाहिए?

Options :

1. ✓ 24

2. ✗ 5

3. ✗ 26

4. ✗ 10

Question Number : 28 Question Id : 54592732348 Question Type : MCQ Option Shuffling : Yes

Correct Marks : 1 Wrong Marks : 0.25

The number of male teachers in a college is twice the number of female teachers. Which one of the following numbers cannot represent the total number of teachers in the college?

Options :

1. ✓ 62

2. ✖ 54

3. ✖ 72

4. ✖ 78

Question Number : 28 Question Id : 54592732348 Question Type : MCQ Option Shuffling : Yes
Correct Marks : 1 Wrong Marks : 0.25

एक महाविद्यालय में पुरुष शिक्षकों की संख्या महिला शिक्षकों से दोगुनी है। निम्नलिखित में से कौन सी संख्या महाविद्यालय में शिक्षकों की कुल संख्या का प्रतिनिधित्व नहीं कर सकती है?

Options :

1. ✔ 62

2. ✖ 54

3. ✖ 72

4. ✖ 78

Question Number : 29 Question Id : 54592732349 Question Type : MCQ Option Shuffling : Yes
Correct Marks : 1 Wrong Marks : 0.25

Which two signs should be interchanged to make the below equation mathematically correct?

$$6 + 192 \times 8 \div 2 - 4 = 50$$

Options :

1. ✔ \times, \div

2. ✖ $+, \div$

3. ✖ $+, -$

4. ✖ $+, \times$

Question Number : 29 Question Id : 54592732349 Question Type : MCQ Option Shuffling : Yes
Correct Marks : 1 Wrong Marks : 0.25

नीचे दिए गए समीकरण को गणितीय रूप से सही बनाने के लिए, किन दो चिन्हों को परस्पर स्थानांतरित किया जाना चाहिए?

$$6 + 192 \times 8 \div 2 - 4 = 50$$

Options :

1. ✓ ×, ÷

2. ✗ +, ÷

3. ✗ +, -

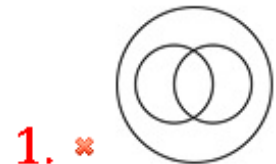
4. ✗ +, ×

Question Number : 30 Question Id : 54592732350 Question Type : MCQ Option Shuffling : Yes

Correct Marks : 1 Wrong Marks : 0.25

Which of the following Venn diagrams best represents the relationship between mothers, fathers and entrepreneurs?

Options :

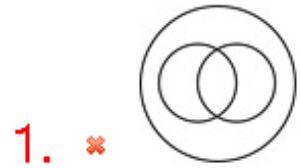


Question Number : 30 Question Id : 54592732350 Question Type : MCQ Option Shuffling : Yes

Correct Marks : 1 Wrong Marks : 0.25

निम्नलिखित में से कौन सा वेन आरेख माताओं, पिता और उद्यमियों के बीच के संबंध को सबसे अच्छा दर्शाता है?

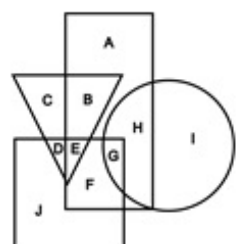
Options :



Question Number : 31 Question Id : 54592732351 Question Type : MCQ Option Shuffling : Yes

Correct Marks : 1 Wrong Marks : 0.25

In the following figure, triangle represents teachers, square represents fathers, circle represents poets and rectangle represents Americans. Which set of letters represents Americans who are poets?



Options :

1. ✔ GH

2. ✘ EGF

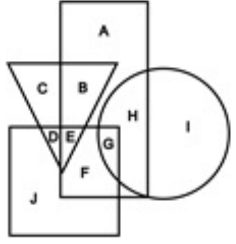
3. ✖ BE

4. ✖ DE

Question Number : 31 Question Id : 54592732351 Question Type : MCQ Option Shuffling : Yes

Correct Marks : 1 Wrong Marks : 0.25

निम्नलिखित आकृति में, त्रिकोण शिक्षकों को दर्शाता है, वर्ग पिताओं को दर्शाता है, वृत्त कवियों को दर्शाता है और आयत अमेरिकियों को दर्शाता है। अक्षरों का कौन सा सेट अमेरिकियों को दर्शाता जो कवि हैं?



Options :

1. ✔ GH

2. ✖ EGF

3. ✖ BE

4. ✖ DE

Question Number : 32 Question Id : 54592732352 Question Type : MCQ Option Shuffling : Yes

Correct Marks : 1 Wrong Marks : 0.25

Suresh entered a room through a door that was facing east. He went five steps ahead and turned 90 degrees in the anti-clockwise direction. Then he went a few more steps ahead and turned 180 degrees in the clock-wise direction and stopped. Which direction is Suresh facing now?

Options :

1. ✖ East

2. ✖ West

3. ✔ North

4. * South

Question Number : 32 Question Id : 54592732352 Question Type : MCQ Option Shuffling : Yes

Correct Marks : 1 Wrong Marks : 0.25

सुरेश ने दरवाजे से एक कमरे में प्रवेश किया, जो पूर्व की ओर था। वह पांच कदम आगे निकल गया और 90 डिग्री वामावर्त दिशा में मुड़ गया। फिर वह कुछ और कदम आगे बढ़ा और दक्षिणावर्त में 180 डिग्री पर मुड़ गया तथा रुक गया। अब सुरेश किस दिशा में देख रहा है?

Options :

1. * पूर्व
2. * पश्चिम
3. ✓ उत्तर
4. * दक्षिण

Question Number : 33 Question Id : 54592732353 Question Type : MCQ Option Shuffling : Yes

Correct Marks : 1 Wrong Marks : 0.25

In this question, two statements are given followed by an inference. Analyse the statements and the inference and determine whether the given inference can be drawn from the statements.

Statements:

- I. Most students of Nav Bharti School are bright.
- II. Navin Studies at Nav Bharti School.

Inference:

- I. Navin is a bright student.

Options :

1. * The given inference is definitely true.

2. * The given inference is definitely false.
3. ✓ The given inference could be true or false.
4. * This inference cannot be drawn from the given statements.

Question Number : 33 Question Id : 54592732353 Question Type : MCQ Option Shuffling : Yes
Correct Marks : 1 Wrong Marks : 0.25

इस प्रश्न में, दो कथनों के बाद एक अनुमान लगाया जाता है। कथनों और अनुमानों का विश्लेषण करें और निर्धारित करें कि दिए गए अनुमानों को कथनों से निकाला जा सकता है या नहीं।

कथन:

- I. नव भारती स्कूल के अधिकांश छात्र उज्ज्वल हैं।
- II. नवीन नव भारती स्कूल में पढ़ता है।

अनुमान:

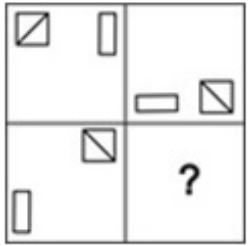
- I. नवीन एक उज्ज्वल छात्र है।

Options :

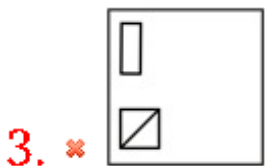
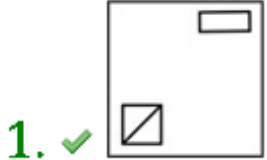
1. * दिया गया अनुमान सत्य है।
2. * दिया गया अनुमान निश्चित रूप से असत्य है।
3. ✓ दिया गया अनुमान सत्य या असत्य हो सकता है।
4. * यह अनुमान दिए गए कथन में लागू नहीं होता।

Question Number : 34 Question Id : 54592732354 Question Type : MCQ Option Shuffling : Yes
Correct Marks : 1 Wrong Marks : 0.25

Which answer figure will complete the pattern in the question figure?



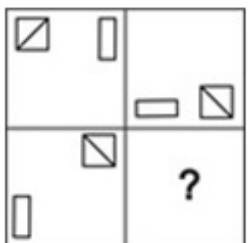
Options :



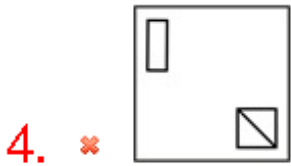
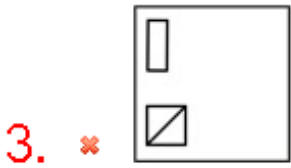
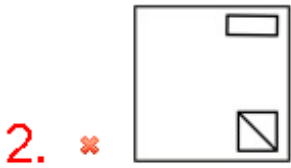
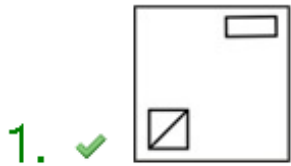
Question Number : 34 Question Id : 54592732354 Question Type : MCQ Option Shuffling : Yes

Correct Marks : 1 Wrong Marks : 0.25

कौन सी उत्तर आकृति प्रश्न आकृति के पैटर्न को पूरा करेगी?



Options :



Question Number : 35 Question Id : 54592732355 Question Type : MCQ Option Shuffling : Yes
 Correct Marks : 1 Wrong Marks : 0.25

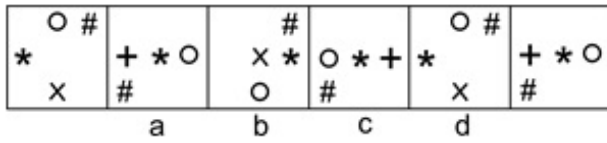
Which of the following options is the wrong figure in the series?

○ #	+ * ○	× #	○ * +	○ #	+ * ○
* x	#	○	#	* x	#
a	b	c	d		

- Options :
- 1. ✗ A
 - 2. ✓ B
 - 3. ✗ C
 - 4. ✗ D

Question Number : 35 Question Id : 54592732355 Question Type : MCQ Option Shuffling : Yes
 Correct Marks : 1 Wrong Marks : 0.25

निम्नलिखित में से कौन सी विकल्प श्रृंखला में गलत आकृति है?



Options :

1. ✘ A

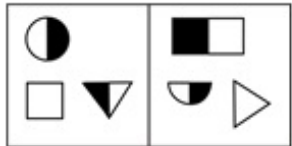
2. ✔ B

3. ✘ C

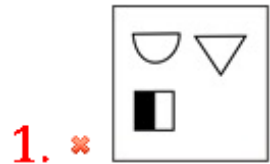
4. ✘ D

Question Number : 36 Question Id : 54592732356 Question Type : MCQ Option Shuffling : Yes
 Correct Marks : 1 Wrong Marks : 0.25

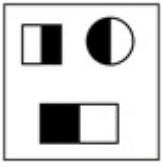
Figures given in which of the options is most similar to the two figures given in the question?



Options :



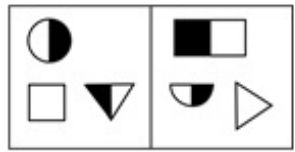
4. ✖



Question Number : 36 Question Id : 54592732356 Question Type : MCQ Option Shuffling : Yes

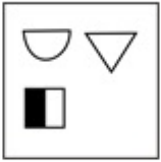
Correct Marks : 1 Wrong Marks : 0.25

किस विकल्प में दी गई आकृतियाँ प्रश्न में दी गई दो आकृतियों से सबसे अधिक समानता रखती हैं?



Options :

1. ✖



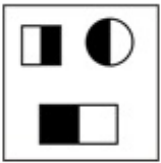
2. ✔



3. ✖



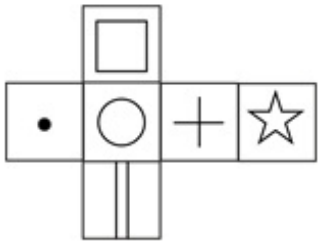
4. ✖



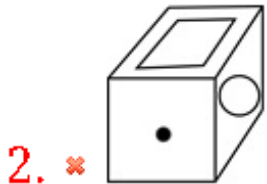
Question Number : 37 Question Id : 54592732357 Question Type : MCQ Option Shuffling : Yes

Correct Marks : 1 Wrong Marks : 0.25

Which of the following cubes in the answer figure CANNOT be made based on the unfolded cube in the question figure?

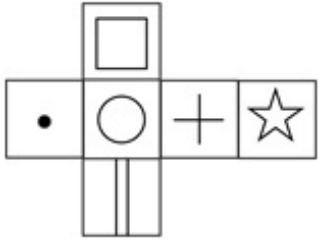


Options :

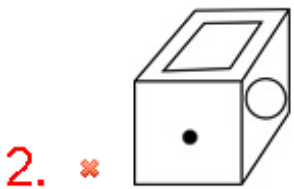


Question Number : 37 Question Id : 54592732357 Question Type : MCQ Option Shuffling : Yes
Correct Marks : 1 Wrong Marks : 0.25

उत्तर आकृति में किस घन को प्रश्न आकृति में प्रकट घन के आधार पर नहीं बनाया जा सकता?



Options :

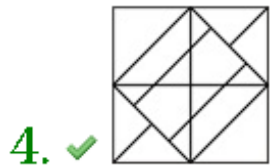
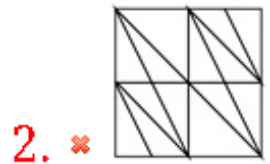
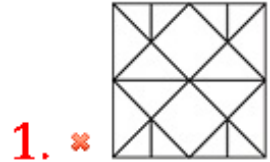


Question Number : 38 Question Id : 54592732358 Question Type : MCQ Option Shuffling : Yes
Correct Marks : 1 Wrong Marks : 0.25

From the given answer figures, select the one in which the question figure is hidden/embedded.



Options :



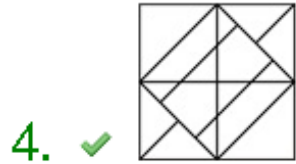
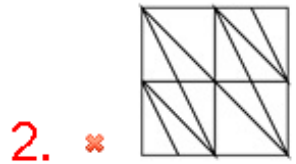
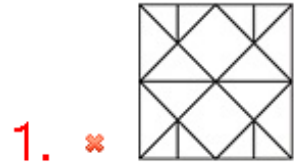
Question Number : 38 Question Id : 54592732358 Question Type : MCQ Option Shuffling : Yes

Correct Marks : 1 Wrong Marks : 0.25

दी गई उत्तर आकृतियों में से, उस एक का चयन करें जिसमें प्रश्न आकृति निहित है।

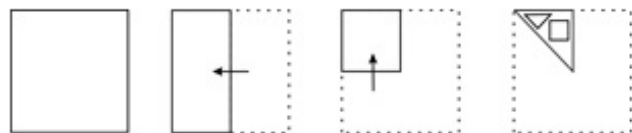


Options :

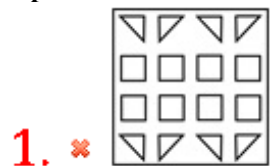




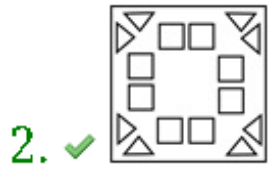
Question Number : 39 Question Id : 54592732359 Question Type : MCQ Option Shuffling : Yes
Correct Marks : 1 Wrong Marks : 0.25

A piece of paper is folded and punched as shown below in the question figures. From the given answer figures, indicate how it will appear when opened.



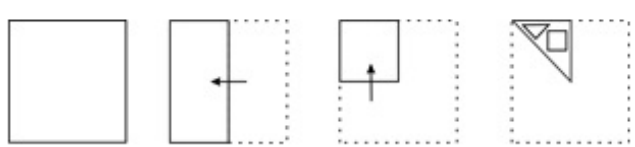
Options :



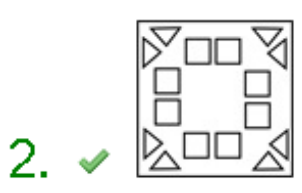
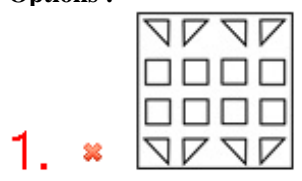


Question Number : 39 Question Id : 54592732359 Question Type : MCQ Option Shuffling : Yes
 Correct Marks : 1 Wrong Marks : 0.25

प्रश्न आकृति में नीचे दिखाए अनुसार पेपर के टुकड़े को मोड़कर उसमें छेद किए गए हैं। दी गई उत्तर आकृतियों से, इंगित करें कि इसे खोले जाने पर यह कैसा दिखाई देगा।



Options :



3. ✘

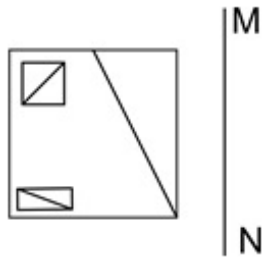


4. ✘



Question Number : 40 Question Id : 54592732360 Question Type : MCQ Option Shuffling : Yes
Correct Marks : 1 Wrong Marks : 0.25

If a mirror is placed on the line MN, then which of the answer figures will be the right mirror image of the given figure?



Options :

1. ✘



2. ✘



3. ✔



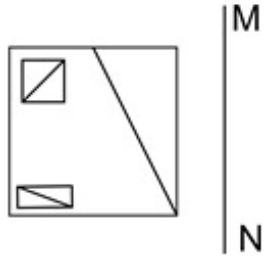
4. ✖



Question Number : 40 Question Id : 54592732360 Question Type : MCQ Option Shuffling : Yes

Correct Marks : 1 Wrong Marks : 0.25

यदि एक दर्पण को रेखा MN पर रखा गया है, तो कौन सी उत्तर आकृति दी गई आकृति का सही दर्पण प्रतिबिंब होगी?



Options :

1. ✖



2. ✖



3. ✔



4. ✖



General Awareness1

Group Number :	3
Group Id :	5459271603
Group Maximum Duration :	0
Group Minimum Duration :	0
Show Attended Group? :	No
Edit Attended Group? :	No
Break time:	0
Group Marks:	20
Is this Group for Examiner?:	No
Revisit allowed for group Instructions? :	Yes
Maximum Instruction Time:	0
Minimum Instruction Time:	0

General Awareness1

Section Id :	5459271603
Section Number :	1
Section type :	Online
Mandatory or Optional:	Mandatory
Number of Questions:	20
Number of Questions to be attempted:	20
Section Marks:	20

Sub-Section Number:	1
Sub-Section Id:	5459271923
Question Shuffling Allowed :	Yes

Question Number : 41 Question Id : 54592732361 Question Type : MCQ Option Shuffling : Yes
Correct Marks : 1 Wrong Marks : 0.25

Soorya Dance Festival is conducted for ten days every year in

_____.

Options :

1. ✓ Kerala
2. ✘ Maharashtra
3. ✘ Andhra Pradesh
4. ✘ Gujarat

Question Number : 41 Question Id : 54592732361 Question Type : MCQ Option Shuffling : Yes
Correct Marks : 1 Wrong Marks : 0.25

सूर्या नृत्य उत्सव _____ में हर साल दस दिनों के लिए आयोजित किया जाता है।

Options :

1. ✓ केरल
2. ✗ महाराष्ट्र
3. ✗ आंध्र प्रदेश
4. ✗ गुजरात

Question Number : 42 Question Id : 54592732362 Question Type : MCQ Option Shuffling : Yes
Correct Marks : 1 Wrong Marks : 0.25

Chavittu Nadakam is a highly colourful Latin Christian classical art form originated in _____, Kerala state in India.

Options :

1. ✗ Tirur
2. ✗ Kollam
3. ✓ Cochin
4. ✗ Thiruvananthapuram

Question Number : 42 Question Id : 54592732362 Question Type : MCQ Option Shuffling : Yes
Correct Marks : 1 Wrong Marks : 0.25

चविट्टु नादकम भारत में केरल राज्य में _____ में उत्पन्न एक अत्यधिक रंगीन लैटिन ईसाई शास्त्रीय कला है।

Options :

1. ✗ तिरूर
2. ✗ कोल्लम
3. ✓ कोचीन
4. ✗ तिरुवनंतपुरम

Question Number : 43 Question Id : 54592732363 Question Type : MCQ Option Shuffling : Yes
Correct Marks : 1 Wrong Marks : 0.25

_____ is the harvesting festival of Orissa.

Options :

1. * Hemis
2. * Kut
3. * Hareli
4. ✓ Nuakhai

Question Number : 43 Question Id : 54592732363 Question Type : MCQ Option Shuffling : Yes
Correct Marks : 1 Wrong Marks : 0.25

_____ उड़ीसा का फसल उत्सव है।

Options :

1. * हेमिस
2. * कुट
3. * हरेली
4. ✓ नुआखाई

Question Number : 44 Question Id : 54592732364 Question Type : MCQ Option Shuffling : Yes
Correct Marks : 1 Wrong Marks : 0.25

Which among the following folk music is not associated with Jammu and Kashmir?

Options :

1. ✓ Jhoori
2. * Surma
3. * Ladishah
4. * Chakri

Question Number : 44 Question Id : 54592732364 Question Type : MCQ Option Shuffling : Yes
Correct Marks : 1 Wrong Marks : 0.25

निम्नलिखित में से कौन सा लोक संगीत जम्मू और कश्मीर से संबंधित नहीं है?

Options :

1. ✓ झूरी
2. ✖ सुरमा
3. ✖ लाड़ीशाह
4. ✖ चक्री

Question Number : 45 Question Id : 54592732365 Question Type : MCQ Option Shuffling : Yes
Correct Marks : 1 Wrong Marks : 0.25

Excessive printing of money leads to _____.

Options :

1. ✓ inflation
2. ✖ unemployment
3. ✖ poverty
4. ✖ economic losses

Question Number : 45 Question Id : 54592732365 Question Type : MCQ Option Shuffling : Yes
Correct Marks : 1 Wrong Marks : 0.25

पैसे की अत्यधिक छपाई _____ की ओर ले जाती है।

Options :

1. ✓ मुद्रास्फीति
2. ✖ बेरोजगारी
3. ✖ गरीबी
4. ✖ आर्थिक नुकसान

Question Number : 46 Question Id : 54592732366 Question Type : MCQ Option Shuffling : Yes
Correct Marks : 1 Wrong Marks : 0.25

What is the minimum support price of Ragi for 2018-19?

Options :

1. ✖ Rs. 1900 per quintal
2. ✓ Rs. 2897 per quintal
3. ✖ Rs. 2500 per quintal

4. * Rs. 1950 per quintal

Question Number : 46 Question Id : 54592732366 Question Type : MCQ Option Shuffling : Yes
Correct Marks : 1 Wrong Marks : 0.25

2018-19 के लिए रागी का न्यूनतम समर्थन मूल्य क्या है?

Options :

1. * रु. 1900 प्रति क्विंटल
2. ✓ रु. 2897 प्रति क्विंटल
3. * रु. 2500 प्रति क्विंटल
4. * रु. 1950 प्रति क्विंटल

Question Number : 47 Question Id : 54592732367 Question Type : MCQ Option Shuffling : Yes
Correct Marks : 1 Wrong Marks : 0.25

Which among the following is an example of an expansionary fiscal policy?

Options :

1. ✓ Increase in Government spending
2. * Increase in taxes
3. * Decrease in Government spending
4. * Increase in Cash Reserve Ratio

Question Number : 47 Question Id : 54592732367 Question Type : MCQ Option Shuffling : Yes
Correct Marks : 1 Wrong Marks : 0.25

निम्नलिखित में से कौन सा विस्तारवादी राजवित्त नीति का एक उदाहरण है?

Options :

1. ✓ सरकारी खर्च में वृद्धि
2. * करों में वृद्धि
3. * सरकारी खर्च में कमी
4. * नगद आरक्षी अनुपात में वृद्धि

Question Number : 48 Question Id : 54592732368 Question Type : MCQ Option Shuffling : Yes

Correct Marks : 1 Wrong Marks : 0.25

Which law states that heat produced by an electric current is directly proportional to the resistance of the conductor, the square of the current, and the time for which it flows?

Options :

1. ✓ Joule's Law
2. ✗ Coulomb's Law
3. ✗ Faraday's Law
4. ✗ Hooke's Law

Question Number : 48 Question Id : 54592732368 Question Type : MCQ Option Shuffling : Yes

Correct Marks : 1 Wrong Marks : 0.25

कौन से नियम में कहा गया है कि विद्युत प्रवाह द्वारा उत्पन्न ऊष्मा चालक के प्रतिरोध, धारा के वर्ग, और जितने समय वह प्रवाहित होती है उसके समानुपात में होती है?

Options :

1. ✓ जूल का नियम
2. ✗ कूलॉम का नियम
3. ✗ फैराडे का नियम
4. ✗ हुक का नियम

Question Number : 49 Question Id : 54592732369 Question Type : MCQ Option Shuffling : Yes

Correct Marks : 1 Wrong Marks : 0.25

Nuclear fission releases heat energy by _____.

Options :

1. ✗ splitting neutrons
2. ✗ combining atoms
3. ✓ splitting atoms
4. ✗ splitting electrons

Question Number : 49 Question Id : 54592732369 Question Type : MCQ Option Shuffling : Yes

Correct Marks : 1 Wrong Marks : 0.25

परमाणु विखंडन _____ द्वारा ऊष्मा ऊर्जा मुक्त करता है।

Options :

1. * न्यूट्रॉन का विभाजन
2. * परमाणुओं का संयोजन
3. ✓ परमाणुओं का विभाजन
4. * इलेक्ट्रॉनों का विभाजन

Question Number : 50 Question Id : 54592732370 Question Type : MCQ Option Shuffling : Yes

Correct Marks : 1 Wrong Marks : 0.25

What is the chemical name of bleaching powder?

Options :

1. ✓ Calcium hypochlorite
2. * Calcium oxide
3. * Calcium carbonate
4. * Calcium sulphate

Question Number : 50 Question Id : 54592732370 Question Type : MCQ Option Shuffling : Yes

Correct Marks : 1 Wrong Marks : 0.25

विरंजन पाउडर का रासायनिक नाम क्या है?

Options :

1. ✓ कैल्शियम हाइपोक्लोराइड
2. * कैल्शियम ऑक्साइड
3. * कैल्शियम कार्बोनेट
4. * कैल्शियम सल्फेट

Question Number : 51 Question Id : 54592732371 Question Type : MCQ Option Shuffling : Yes

Correct Marks : 1 Wrong Marks : 0.25

Mycology is the science that deals with the study of _____.

Options :

1. ✖ fruits
2. ✔ fungi
3. ✖ fossil
4. ✖ flowers

Question Number : 51 Question Id : 54592732371 Question Type : MCQ Option Shuffling : Yes
Correct Marks : 1 Wrong Marks : 0.25

कवक विज्ञान वह विज्ञान है जो _____ के अध्ययन से संबंधित है।

Options :

1. ✖ फल
2. ✔ कवक
3. ✖ जीवाश्म
4. ✖ पुष्प

Question Number : 52 Question Id : 54592732372 Question Type : MCQ Option Shuffling : Yes
Correct Marks : 1 Wrong Marks : 0.25

Which among the following is the largest phylum of Animalia?

Options :

1. ✖ Platyhelminthes
2. ✖ Aschelminthes
3. ✔ Arthropoda
4. ✖ Mollusca

Question Number : 52 Question Id : 54592732372 Question Type : MCQ Option Shuffling : Yes
Correct Marks : 1 Wrong Marks : 0.25

निम्नलिखित में से कौन जीवों का सबसे बड़ा संघ (फ़ायलम) है?

Options :

1. ✖ प्लैटीहेल्मिन्थेस
2. ✖ असचेल्मिन्थेस
3. ✔ सन्धिपाद

4. * मोलस्का

Question Number : 53 Question Id : 54592732373 Question Type : MCQ Option Shuffling : Yes
Correct Marks : 1 Wrong Marks : 0.25

The members of Chlorophyceae are commonly called _____.

Options :

1. * red algae
2. * brown algae
3. ✓ green algae
4. * black algae

Question Number : 53 Question Id : 54592732373 Question Type : MCQ Option Shuffling : Yes
Correct Marks : 1 Wrong Marks : 0.25

क्लोरोफाइसी के सदस्यों को आमतौर पर _____ कहा जाता है।

Options :

1. * लाल शैवाल
2. * भूरा शैवाल
3. ✓ हरी शैवाल
4. * काला शैवाल

Question Number : 54 Question Id : 54592732374 Question Type : MCQ Option Shuffling : Yes
Correct Marks : 1 Wrong Marks : 0.25

_____ is the natural interconnection of food chains and generally a graphical representation (usually an image) of what-eats-what in an ecological community.

Options :

1. ✓ Food web
2. * Energy pyramid
3. * Composting
4. * Biodiversity

Question Number : 54 Question Id : 54592732374 Question Type : MCQ Option Shuffling : Yes

Correct Marks : 1 Wrong Marks : 0.25

_____ खाद्य श्रृंखलाओं का स्वाभाविक अंतर्संबंध है और आम तौर पर एक पारिस्थितिक समुदाय में कौन किसे खाता है, का एक ग्राफिकल प्रस्तुतिकरण (आमतौर पर एक चित्र) है।

Options :

1. ✓ आहार जाल
2. ✗ ऊर्जा पिरामिड
3. ✗ खाद
4. ✗ जैव विविधता

Question Number : 55 Question Id : 54592732375 Question Type : MCQ Option Shuffling : Yes

Correct Marks : 1 Wrong Marks : 0.25

The United Nations General Assembly decided to declare the year _____ as the International Sanitation Year.

Options :

1. ✗ 2005
2. ✓ 2008
3. ✗ 2012
4. ✗ 2010

Question Number : 55 Question Id : 54592732375 Question Type : MCQ Option Shuffling : Yes

Correct Marks : 1 Wrong Marks : 0.25

संयुक्त राष्ट्र महासभा ने वर्ष _____ को अंतर्राष्ट्रीय स्वच्छता वर्ष घोषित करने का निर्णय लिया।

Options :

1. ✗ 2005
2. ✓ 2008
3. ✗ 2012
4. ✗ 2010

Question Number : 56 Question Id : 54592732376 Question Type : MCQ Option Shuffling : Yes
Correct Marks : 1 Wrong Marks : 0.25

_____ river is known as the Tsangpo in Tibet.

Options :

1. ✓ Brahmaputra
2. ✗ Indus
3. ✗ Ganga
4. ✗ Yamuna

Question Number : 56 Question Id : 54592732376 Question Type : MCQ Option Shuffling : Yes
Correct Marks : 1 Wrong Marks : 0.25

_____ नदी को तिब्बत में त्संगपो के नाम से जाना जाता है।

Options :

1. ✓ ब्रह्मपुत्र
2. ✗ सिंधु
3. ✗ गंगा
4. ✗ यमुना

Question Number : 57 Question Id : 54592732377 Question Type : MCQ Option Shuffling : Yes
Correct Marks : 1 Wrong Marks : 0.25

_____ is also known as Dakshin Ganga.

Options :

1. ✗ Mahanadi
2. ✓ Cauvery
3. ✗ Krishna
4. ✗ Tapi

Question Number : 57 Question Id : 54592732377 Question Type : MCQ Option Shuffling : Yes
Correct Marks : 1 Wrong Marks : 0.25

_____ को दक्षिण गंगा के नाम से भी जाना जाता है।

Options :

1. ✖ महानदी

2. ✔ कावेरी

3. ✖ कृष्णा

4. ✖ तापी

Question Number : 58 Question Id : 54592732378 Question Type : MCQ Option Shuffling : Yes
Correct Marks : 1 Wrong Marks : 0.25

_____ is the highest peak of Vindhya range.

Options :

1. ✖ Arma Konda

2. ✖ Dhupgarh

3. ✖ Guru Shikar

4. ✔ Kalumar

Question Number : 58 Question Id : 54592732378 Question Type : MCQ Option Shuffling : Yes
Correct Marks : 1 Wrong Marks : 0.25

_____ विंध्य पर्वतमाला का सर्वोच्च शिखर है।

Options :

1. ✖ अरमा कौडा

2. ✖ धूपगढ़

3. ✖ गुरु शिखर

4. ✔ कालूमर

Question Number : 59 Question Id : 54592732379 Question Type : MCQ Option Shuffling : Yes
Correct Marks : 1 Wrong Marks : 0.25

The Palk Strait separates Sri Lanka's Mannar district from the Indian state of _____.

Options :

1. ✖ Kerala

2. ✖ Andhra Pradesh

3. * Karnataka

4. ✓ Tamil Nadu

Question Number : 59 Question Id : 54592732379 Question Type : MCQ Option Shuffling : Yes

Correct Marks : 1 Wrong Marks : 0.25

पाल्क जलडमरूमध्य श्रीलंका के मन्नार जिले को भारतीय राज्य _____ से अलग करता है।

Options :

1. * केरल

2. * आंध्र प्रदेश

3. * कर्नाटक

4. ✓ तमिल नाडु

Question Number : 60 Question Id : 54592732380 Question Type : MCQ Option Shuffling : Yes

Correct Marks : 1 Wrong Marks : 0.25

The Sunda strait lies between _____ and Java islands of Indonesia.

Options :

1. ✓ Sumatra

2. * Bali

3. * Sumba

4. * Borneo

Question Number : 60 Question Id : 54592732380 Question Type : MCQ Option Shuffling : Yes

Correct Marks : 1 Wrong Marks : 0.25

सुंडा जलडमरूमध्य _____ और इंडोनेशिया के जावा द्वीपों के बीच स्थित है।

Options :

1. ✓ सुमात्रा

2. * बाली

3. * सुम्बा

4. * बोर्नियो

General Awareness2

Group Number :	4
Group Id :	5459271604
Group Maximum Duration :	0
Group Minimum Duration :	0
Show Attended Group? :	No
Edit Attended Group? :	No
Break time:	0
Group Marks:	20
Is this Group for Examiner? :	No
Revisit allowed for group Instructions? :	Yes
Maximum Instruction Time:	0
Minimum Instruction Time:	0

General Awareness2

Section Id :	5459271604
Section Number :	1
Section type :	Online
Mandatory or Optional:	Mandatory
Number of Questions:	20
Number of Questions to be attempted:	20
Section Marks:	20

Sub-Section Number:	1
Sub-Section Id:	5459271924
Question Shuffling Allowed :	Yes

Question Number : 61 Question Id : 54592732381 Question Type : MCQ Option Shuffling : Yes
Correct Marks : 1 Wrong Marks : 0.25

Apiculture is related to the rearing of _____.

Options :

1. * birds

2. * fish

3. * sheep

4. ✓ bees

Question Number : 61 Question Id : 54592732381 Question Type : MCQ Option Shuffling : Yes
Correct Marks : 1 Wrong Marks : 0.25

एपिकल्चर _____ के पालन से संबंधित है।

Options :

1. ✖ पक्षी
2. ✖ मछली
3. ✖ भेड़
4. ✔ मधुमक्खियाँ

Question Number : 62 Question Id : 54592732382 Question Type : MCQ Option Shuffling : Yes
Correct Marks : 1 Wrong Marks : 0.25

_____ is the smallest site of the Indus Valley Civilization.

Options :

1. ✔ Allahdino
2. ✖ Mohenjo-daro
3. ✖ Alamgirpur
4. ✖ Harappa

Question Number : 62 Question Id : 54592732382 Question Type : MCQ Option Shuffling : Yes
Correct Marks : 1 Wrong Marks : 0.25

_____ सिंधु घाटी सभ्यता का सबसे छोटा स्थल है।

Options :

1. ✔ अल्लाहदीनो
2. ✖ मोहन जोदड़ो
3. ✖ आलमगीरपुर
4. ✖ हड़प्पा

Question Number : 63 Question Id : 54592732383 Question Type : MCQ Option Shuffling : Yes
Correct Marks : 1 Wrong Marks : 0.25

Who was the founder of the Tuglaq Dynasty?

Options :

1. ✓ Ghiyas ud din
2. ✘ Jalal ud din
3. ✘ Khusro Khan
4. ✘ Ibrahim

Question Number : 63 Question Id : 54592732383 Question Type : MCQ Option Shuffling : Yes
Correct Marks : 1 Wrong Marks : 0.25

तुग़लक़ राजवंश का संस्थापक कौन था?

Options :

1. ✓ गियास उद दीन
2. ✘ जलाल उद दीन
3. ✘ खुसरो खान
4. ✘ इब्राहिम

Question Number : 64 Question Id : 54592732384 Question Type : MCQ Option Shuffling : Yes
Correct Marks : 1 Wrong Marks : 0.25

Who was the founder of the Chola Dynasty?

Options :

1. ✘ Mahinda V
2. ✘ Rajaraja I
3. ✓ Vijayalaya Chola
4. ✘ Rajendra Chola II

Question Number : 64 Question Id : 54592732384 Question Type : MCQ Option Shuffling : Yes
Correct Marks : 1 Wrong Marks : 0.25

चोल राजवंश का संस्थापक कौन था?

Options :

1. ✘ महिंद्रा V
2. ✘ राजराजा I
3. ✓ विजयालय चोल

4. * राजेंद्र चोल II

Question Number : 65 Question Id : 54592732385 Question Type : MCQ Option Shuffling : Yes
Correct Marks : 1 Wrong Marks : 0.25

Which among the following movements is also known as August Kranti?

Options :

1. ✓ Quit India Movement
2. * Civil Disobedience Movement
3. * Salt Satyagraha
4. * Dandi March

Question Number : 65 Question Id : 54592732385 Question Type : MCQ Option Shuffling : Yes
Correct Marks : 1 Wrong Marks : 0.25

निम्नलिखित आंदोलनों में से किसे अगस्त क्रांति के रूप में भी जाना जाता है?

Options :

1. ✓ भारत छोड़ो आंदोलन
2. * सविनय अवज्ञा आंदोलन
3. * नमक सत्याग्रह
4. * दांडी मार्च

Question Number : 66 Question Id : 54592732386 Question Type : MCQ Option Shuffling : Yes
Correct Marks : 1 Wrong Marks : 0.25

In 1861, Pandit Nobin Chandra Roy founded the Brahmo Samaj at _____.

Options :

1. * Bangalore
2. * Kolkata
3. * Rajasthan
4. ✓ Lahore

Question Number : 66 Question Id : 54592732386 Question Type : MCQ Option Shuffling : Yes

Correct Marks : 1 Wrong Marks : 0.25

1861 में, पंडित नोबिन चंद्र राँय ने _____ में ब्रह्म समाज की स्थापना की थी।

Options :

1. ✖ बंगलौर
2. ✖ कोलकाता
3. ✖ राजस्थान
4. ✔ लाहौर

Question Number : 67 Question Id : 54592732387 Question Type : MCQ Option Shuffling : Yes

Correct Marks : 1 Wrong Marks : 0.25

_____ succeeded Lord Cornwallis as the Governor General of India in 1793.

Options :

1. ✖ Lord Wellesley
2. ✔ Sir John Shore
3. ✖ Lord Curzon
4. ✖ Lord Hastings

Question Number : 67 Question Id : 54592732387 Question Type : MCQ Option Shuffling : Yes

Correct Marks : 1 Wrong Marks : 0.25

_____ 1793 में भारत के गवर्नर जनरल के रूप में लॉर्ड कॉर्नवालिस के उत्तराधिकारी बने।

Options :

1. ✖ लॉर्ड वैंलेस्ली
2. ✔ सर जॉन शोर
3. ✖ लॉर्ड कर्जन
4. ✖ लॉर्ड हेस्टिंग्स

Question Number : 68 Question Id : 54592732388 Question Type : MCQ Option Shuffling : Yes

Correct Marks : 1 Wrong Marks : 0.25

This famous personality was awarded the knighthood in 1915 but returned it in 1919 as a protest against the Jallianwala Bagh Massacre. Who was he?

Options :

1. ✓ Rabindranath Tagore
2. ✗ Mahatma Gandhi
3. ✗ Aurobindo Ghosh
4. ✗ Annie Besant

Question Number : 68 Question Id : 54592732388 Question Type : MCQ Option Shuffling : Yes

Correct Marks : 1 Wrong Marks : 0.25

एक प्रसिद्ध व्यक्तित्व को 1915 में नाइटहुड से सम्मानित किया गया था लेकिन 1919 में जलियांवाला बाग नरसंहार के विरोध के रूप में इसने उसे वापस कर दिया गया। वह व्यक्ति कौन था?

Options :

1. ✓ रविंद्रनाथ टैगोर
2. ✗ महात्मा गांधी
3. ✗ अरबिंदो घोष
4. ✗ एनी बेसेंट

Question Number : 69 Question Id : 54592732389 Question Type : MCQ Option Shuffling : Yes

Correct Marks : 1 Wrong Marks : 0.25

She became the first Indian woman to become a teacher and opened up the first school for girls in India in 1848. Who is she?

Options :

1. ✗ Annie Besant
2. ✗ Kamaladevi Chattopadhyay

3. ✖ Captain Prem Mathur

4. ✔ Savitribai Phule

Question Number : 69 Question Id : 54592732389 Question Type : MCQ Option Shuffling : Yes

Correct Marks : 1 Wrong Marks : 0.25

वह एक शिक्षिका बनने वाली पहली भारतीय महिला बनीं और उन्होंने 1848 में भारत में लड़कियों के लिए पहला स्कूल खोला। वह कौन हैं?

Options :

1. ✖ एनी बेसेंट

2. ✖ कमलादेवी चट्टोपाध्याय

3. ✖ कैप्टन प्रेम माथुर

4. ✔ सावित्रीबाई फुले

Question Number : 70 Question Id : 54592732390 Question Type : MCQ Option Shuffling : Yes

Correct Marks : 1 Wrong Marks : 0.25

Olivia Colman won the Oscars in the best actress category for _____ in 2019.

Options :

1. ✖ Green Book

2. ✔ The Favourite

3. ✖ Roma

4. ✖ First Man

Question Number : 70 Question Id : 54592732390 Question Type : MCQ Option Shuffling : Yes

Correct Marks : 1 Wrong Marks : 0.25

ओलिविया कोलमैन ने 2019 में _____ के लिए सर्वश्रेष्ठ अभिनेत्री श्रेणी में ऑस्कर जीता।

Options :

1. ✖ ग्रीन बुक

2. ✔ द फेवरिट

3. * रोमा

4. * फ़र्स्ट मैन

Question Number : 71 Question Id : 54592732391 Question Type : MCQ Option Shuffling : Yes

Correct Marks : 1 Wrong Marks : 0.25

Who was the author of "Development as Freedom"?

Options :

1. * Jawaharlal Nehru

2. * Amish Tripathi

3. ✓ Amartya Sen

4. * Avul Pakir Jainulabdeen Abdul Kalam

Question Number : 71 Question Id : 54592732391 Question Type : MCQ Option Shuffling : Yes

Correct Marks : 1 Wrong Marks : 0.25

"डेवलपमेंट एज फ्रीडम" के लेखक कौन थे?

Options :

1. * जवाहरलाल नेहरू

2. * अमीष त्रिपाठी

3. ✓ अमर्त्य सेन

4. * अबुल पाकिर जैनुलाअबदीन अब्दुल कलाम

Question Number : 72 Question Id : 54592732392 Question Type : MCQ Option Shuffling : Yes

Correct Marks : 1 Wrong Marks : 0.25

Where is the headquarters of Association of South East Asian Nations located?

Options :

1. * China

2. ✓ Indonesia

3. * Nepal

4. * Philippines

Question Number : 72 Question Id : 54592732392 Question Type : MCQ Option Shuffling : Yes
Correct Marks : 1 Wrong Marks : 0.25

दक्षिण पूर्वी एशियाई राष्ट्रों का संगठन का मुख्यालय कहाँ स्थित है?

Options :

1. * चीन
2. ✓ इंडोनेशिया
3. * नेपाल
4. * फिलीपींस

Question Number : 73 Question Id : 54592732393 Question Type : MCQ Option Shuffling : Yes
Correct Marks : 1 Wrong Marks : 0.25

The headquarter of United Nations International Children's Emergency Fund (UNICEF) is located in _____.

Options :

1. * Geneva
2. ✓ New York
3. * Paris
4. * Rome

Question Number : 73 Question Id : 54592732393 Question Type : MCQ Option Shuffling : Yes
Correct Marks : 1 Wrong Marks : 0.25

यूनाइटेड नेशंस इंटरनेशनल चिल्ड्रेंस इमरजेंसी फंड (यूनिसेफ) का मुख्यालय _____ में स्थित है।

Options :

1. * जिनेवा
2. ✓ न्यूयॉर्क
3. * पेरिस
4. * रोम

Question Number : 74 Question Id : 54592732394 Question Type : MCQ Option Shuffling : Yes
Correct Marks : 1 Wrong Marks : 0.25

Who was the chairman of Credential Committee of the Constituent Assembly?

Options :

1. ✖ Rajendra Prasad
2. ✔ Alladi Krishnaswami Ayyar
3. ✖ Kanaiyalal Maneklal Munshi
4. ✖ Ganesh Vasudev Mavalankar

Question Number : 74 Question Id : 54592732394 Question Type : MCQ Option Shuffling : Yes
Correct Marks : 1 Wrong Marks : 0.25

संविधान सभा की साख समिति के अध्यक्ष कौन थे?

Options :

1. ✖ राजेंद्र प्रसाद
2. ✔ अल्लादी कृष्णस्वामी अय्यर
3. ✖ कन्हैयालाल माणिकलाल मुंशी
4. ✖ गणेश वासुदेव मावलंकर

Question Number : 75 Question Id : 54592732395 Question Type : MCQ Option Shuffling : Yes
Correct Marks : 1 Wrong Marks : 0.25

What is the minimum age for election as a member of a Panchayat?

Options :

1. ✖ 18 years
2. ✔ 21 years
3. ✖ 23 years
4. ✖ 25 years

Question Number : 75 Question Id : 54592732395 Question Type : MCQ Option Shuffling : Yes
Correct Marks : 1 Wrong Marks : 0.25

पंचायत के सदस्य के रूप में चुनाव के लिए न्यूनतम आयु क्या है?

Options :

1. ✖ 18 वर्ष

2. ✔ 21 वर्ष

3. ✖ 23 वर्ष

4. ✖ 25 वर्ष

Question Number : 76 Question Id : 54592732396 Question Type : MCQ Option Shuffling : Yes
Correct Marks : 1 Wrong Marks : 0.25

_____ limits the maximum strength of the House of the People of the Lok Sabha to 552.

Options :

1. ✖ Article 170

2. ✖ Article 331

3. ✔ Article 81

4. ✖ Article 80

Question Number : 76 Question Id : 54592732396 Question Type : MCQ Option Shuffling : Yes
Correct Marks : 1 Wrong Marks : 0.25

_____ लोकसभा के लोगों की सभा की अधिकतम संख्या को 552 तक सीमित करता है।

Options :

1. ✖ अनुच्छेद 170

2. ✖ अनुच्छेद 331

3. ✔ अनुच्छेद 81

4. ✖ अनुच्छेद 80

Question Number : 77 Question Id : 54592732397 Question Type : MCQ Option Shuffling : Yes
Correct Marks : 1 Wrong Marks : 0.25

Who was the chairman of Committee on the Functions of the Constituent Assembly?

Options :

1. * Rajendra Prasad
2. * Jawaharlal Nehru
3. ✓ Ganesh Vasudev Mavalankar
4. * Vallabhbhai Patel

Question Number : 77 Question Id : 54592732397 Question Type : MCQ Option Shuffling : Yes
Correct Marks : 1 Wrong Marks : 0.25

संविधान सभा के कार्यों पर समिति का अध्यक्ष कौन था?

Options :

1. * राजेंद्र प्रसाद
2. * जवाहरलाल नेहरू
3. ✓ गणेश वासुदेव मावलंकर
4. * वल्लभभाई पटेल

Question Number : 78 Question Id : 54592732398 Question Type : MCQ Option Shuffling : Yes
Correct Marks : 1 Wrong Marks : 0.25

The first Olympic Games was hosted by _____ in 1896.

Options :

1. * Tokyo
2. ✓ Athens
3. * Hamilton
4. * Rome

Question Number : 78 Question Id : 54592732398 Question Type : MCQ Option Shuffling : Yes
Correct Marks : 1 Wrong Marks : 0.25

1896 में पहले ओलंपिक खेलों की मेजबानी _____ द्वारा की गई थी।

Options :

1. * टोक्यो
2. ✓ एथेंस

3. * हैमिल्टन

4. * रोम

Question Number : 79 Question Id : 54592732399 Question Type : MCQ Option Shuffling : Yes

Correct Marks : 1 Wrong Marks : 0.25

Who was the first Indian to win a gold medal at the Olympic Games?

Options :

1. * Karnam Malleswari

2. * Khashaba Dadasaheb Jadhav

3. ✓ Abhinav Bindra

4. * Wilson Jones

Question Number : 79 Question Id : 54592732399 Question Type : MCQ Option Shuffling : Yes

Correct Marks : 1 Wrong Marks : 0.25

ओलंपिक खेलों में स्वर्ण पदक जीतने वाले पहले भारतीय कौन थे?

Options :

1. * कर्णम मल्लेश्वरी

2. * खाशाबा दादासाहेब जाधव

3. ✓ अभिनव बिंद्रा

4. * विल्सन जोन्स

Question Number : 80 Question Id : 54592732400 Question Type : MCQ Option Shuffling : Yes

Correct Marks : 1 Wrong Marks : 0.25

_____ won the 2019 Pacific International Billiards Championship.

Options :

1. * Sourav Kothari

2. * Kurt Dunham

3. * Pankaj Advani

4. ✓ Peter Gilchrist

Question Number : 80 Question Id : 54592732400 Question Type : MCQ Option Shuffling : Yes

Correct Marks : 1 Wrong Marks : 0.25

_____ ने 2019 पैसिफिक इंटरनेशनल बिलियर्ड्स चैम्पियनशिप जीती।

Options :

1. ✖ सौरव कोठारी
2. ✖ कर्ट इनहम
3. ✖ पंकज आडवाणी
4. ✔ पीटर गिलक्रिस्ट

Arithmetic Ability1

Group Number :	5
Group Id :	5459271605
Group Maximum Duration :	0
Group Minimum Duration :	0
Show Attended Group? :	No
Edit Attended Group? :	No
Break time:	0
Group Marks:	20
Is this Group for Examiner? :	No
Revisit allowed for group Instructions? :	Yes
Maximum Instruction Time:	0
Minimum Instruction Time:	0

Arithmetic Ability1

Section Id :	5459271605
Section Number :	1
Section type :	Online
Mandatory or Optional:	Mandatory
Number of Questions:	20
Number of Questions to be attempted:	20
Section Marks:	20

Sub-Section Number:	1
Sub-Section Id:	5459271925
Question Shuffling Allowed :	Yes

Question Number : 81 Question Id : 54592732401 Question Type : MCQ Option Shuffling : Yes
Correct Marks : 1 Wrong Marks : 0.25

Find the value of x: $6 \times 12 \div x - 4 \times 5 = 4$.

Options :

1. ✖ 1

2. ✖ 2

3. ✔ 3

4. ✖ 4

Question Number : 81 Question Id : 54592732401 Question Type : MCQ Option Shuffling : Yes
Correct Marks : 1 Wrong Marks : 0.25

$6 \times 12 \div x - 4 \times 5 = 4$, x का मूल्य ज्ञात करें।

Options :

1. ✖ 1

2. ✖ 2

3. ✔ 3

4. ✖ 4

Question Number : 82 Question Id : 54592732402 Question Type : MCQ Option Shuffling : Yes
Correct Marks : 1 Wrong Marks : 0.25

Convert 47 decimal to binary.

Options :

1. ✖ 101010

2. ✔ 101111

3. ✖ 100111

4. ✖ 101110

Question Number : 82 Question Id : 54592732402 Question Type : MCQ Option Shuffling : Yes
Correct Marks : 1 Wrong Marks : 0.25

47 को दशमलव से बाइनरी में रूपांतरित करें।

Options :

1. ✖ 101010

2. ✓ 101111

3. ✗ 100111

4. ✗ 101110

Question Number : 83 Question Id : 54592732403 Question Type : MCQ Option Shuffling : Yes
Correct Marks : 1 Wrong Marks : 0.25

The HCF and LCM of 2 numbers are 2 and 120 respectively. If one of the numbers is 22 more than the other, find the smaller number.

Options :

1. ✗ 4

2. ✗ 5

3. ✓ 8

4. ✗ 7

Question Number : 83 Question Id : 54592732403 Question Type : MCQ Option Shuffling : Yes
Correct Marks : 1 Wrong Marks : 0.25

2 संख्याओं के महत्तम समापवर्तक और लघुत्तम समापवर्तक क्रमशः 2 और 120 हैं। यदि संख्याओं में से एक दूसरे से 22 से अधिक है, तो छोटी संख्या ज्ञात करें।

Options :

1. ✗ 4

2. ✗ 5

3. ✓ 8

4. ✗ 7

Question Number : 84 Question Id : 54592732404 Question Type : MCQ Option Shuffling : Yes
Correct Marks : 1 Wrong Marks : 0.25

Solve for X: $(5 \times 3 - 12) \times 4 - 6 \times 2 + X = 5$

Options :

1. ✖ -1

2. ✖ 1

3. ✖ 3

4. ✔ 5

Question Number : 84 Question Id : 54592732404 Question Type : MCQ Option Shuffling : Yes
Correct Marks : 1 Wrong Marks : 0.25

$(5 \times 3 - 12) \times 4 - 6 \times 2 + X = 5$, X को हल करें।

Options :

1. ✖ -1

2. ✖ 1

3. ✖ 3

4. ✔ 5

Question Number : 85 Question Id : 54592732405 Question Type : MCQ Option Shuffling : Yes
Correct Marks : 1 Wrong Marks : 0.25

What is the greatest 4-digit number divisible by 3, 4, 5 and 6?.

Options :

1. ✖ 9900

2. ✖ 9920

3. ✖ 9940

4. ✔ 9960

Question Number : 85 Question Id : 54592732405 Question Type : MCQ Option Shuffling : Yes
Correct Marks : 1 Wrong Marks : 0.25

3, 4, 5 और 6 द्वारा विभाजित होने वाली सबसे बड़ी 4-अंकीय संख्या कौनसी है?

Options :

1. ✖ 9900

2. ✖ 9920

3. ✖ 9940

4. ✔ 9960

Question Number : 86 Question Id : 54592732406 Question Type : MCQ Option Shuffling : Yes

Correct Marks : 1 Wrong Marks : 0.25

What is the sum of the digits of the greatest 4-digit number divisible by 15, 20, 25 and 75?

Options :

1. ✖ 9

2. ✔ 18

3. ✖ 15

4. ✖ 21

Question Number : 86 Question Id : 54592732406 Question Type : MCQ Option Shuffling : Yes

Correct Marks : 1 Wrong Marks : 0.25

15, 20, 25 और 75 द्वारा विभाजित होने वाली सबसे बड़ी 4-अंकीय संख्या के अंकों का योगफल क्या है?

Options :

1. ✖ 9

2. ✔ 18

3. ✖ 15

4. ✖ 21

Question Number : 87 Question Id : 54592732407 Question Type : MCQ Option Shuffling : Yes

Correct Marks : 1 Wrong Marks : 0.25

Find the least number which when divided by 12, 15, 16 and 20 leaves a remainder of 5 in each case.

Options :

1. ✔ 245

2. ✖ 485

3. ✖ 365

4. ✖ 125

Question Number : 87 Question Id : 54592732407 Question Type : MCQ Option Shuffling : Yes

Correct Marks : 1 Wrong Marks : 0.25

वह सबसे छोटी संख्या ज्ञात करें जो 12, 15, 16 और 20 से विभाजित करने के बाद प्रत्येक मामले में 5 शेष छोड़ती है।

Options :

1. ✔ 245

2. ✖ 485

3. ✖ 365

4. ✖ 125

Question Number : 88 Question Id : 54592732408 Question Type : MCQ Option Shuffling : Yes

Correct Marks : 1 Wrong Marks : 0.25

A, B and C complete a round of a circular stadium in 126, 154 and 99 seconds respectively. After what time will they meet again at the same point as of the start?

Options :

1. ✖ 22 minutes 6 seconds

2. ✖ 23 minutes 8 seconds

3. ✖ 22 minutes 8 seconds

4. ✔ 23 minutes 6 seconds

Question Number : 88 Question Id : 54592732408 Question Type : MCQ Option Shuffling : Yes

Correct Marks : 1 Wrong Marks : 0.25

A, B और C क्रमशः 126, 154 और 99 सेकंड में एक गोलाकार स्टेडियम का एक चक्कर पूरा करते हैं। कितने समय के बाद वे फिर से उसी बिंदु पर मिलेंगे जहाँ से उन्होंने शुरू किया था?

Options :

1. ✖ 22 मिनट 6 सेकंड
2. ✖ 23 मिनट 8 सेकंड
3. ✖ 22 मिनट 8 सेकंड
4. ✔ 23 मिनट 6 सेकंड

Question Number : 89 Question Id : 54592732409 Question Type : MCQ Option Shuffling : Yes
Correct Marks : 1 Wrong Marks : 0.25

If the sum of 2 numbers is 60 and the HCF and LCM of these 2 numbers are 5 and 175 respectively, then what is the sum of the reciprocals of 2 numbers?

Options :

1. ✖ 11/175
2. ✔ 12/175
3. ✖ 11/75
4. ✖ 12/75

Question Number : 89 Question Id : 54592732409 Question Type : MCQ Option Shuffling : Yes
Correct Marks : 1 Wrong Marks : 0.25

यदि 2 संख्याओं का योग 60 है और इन 2 संख्याओं का महत्तम समापवर्तक और लघुत्तम समापवर्तक क्रमशः 5 और 175 है, तो 2 संख्याओं का पारस्परिक योग क्या है?

Options :

1. ✖ 11/175
2. ✔ 12/175
3. ✖ 11/75
4. ✖ 12/75

Question Number : 90 Question Id : 54592732410 Question Type : MCQ Option Shuffling : Yes
Correct Marks : 1 Wrong Marks : 0.25

A man has some hens and some bulls. If the total number of heads are 40 and the number of feet equals 128, then what is the number of bulls?

Options :

1. ✓ 24
2. ✗ 26
3. ✗ 28
4. ✗ 20

Question Number : 90 Question Id : 54592732410 Question Type : MCQ Option Shuffling : Yes

Correct Marks : 1 Wrong Marks : 0.25

एक आदमी के पास कुछ मुर्गियाँ और कुछ बैल हैं। यदि सिर की कुल संख्या 40 है और पैरों की संख्या 128 के बराबर है, तो बैल की संख्या क्या है?

Options :

1. ✓ 24
2. ✗ 26
3. ✗ 28
4. ✗ 20

Question Number : 91 Question Id : 54592732411 Question Type : MCQ Option Shuffling : Yes

Correct Marks : 1 Wrong Marks : 0.25

The average age of husband, wife and their child 4 years ago was 26 years and that of wife and child 3 years ago was 22 years. What is the present age of the husband?

Options :

1. ✓ 40 years
2. ✗ 42 years
3. ✗ 44 years

4. * 46 years

Question Number : 91 Question Id : 54592732411 Question Type : MCQ Option Shuffling : Yes

Correct Marks : 1 Wrong Marks : 0.25

4 वर्ष पहले पति, पत्नी और उनके बच्चे की औसत आयु 26 वर्ष थी और 3 वर्ष पहले पत्नी और बच्चे की आयु 22 वर्ष थी। पति की वर्तमान आयु क्या है?

Options :

1. ✓ 40 वर्ष
2. * 42 वर्ष
3. * 44 वर्ष
4. * 46 वर्ष

Question Number : 92 Question Id : 54592732412 Question Type : MCQ Option Shuffling : Yes

Correct Marks : 1 Wrong Marks : 0.25

A retailer bought 12 articles for Rs 10 each, 13 articles for Rs 15, 15 articles for Rs. 19 each, find the selling price per article if the profit is supposed to be 20 percent on the average cost price.

Options :

1. ✓ Rs. 18
2. * Rs. 18.2
3. * Rs. 17.75
4. * Rs. 18.5

Question Number : 92 Question Id : 54592732412 Question Type : MCQ Option Shuffling : Yes

Correct Marks : 1 Wrong Marks : 0.25

एक खुदरा विक्रेता ने रु. 10 में प्रत्येक के लिए 12 वस्तु, रु. 15 में 13 वस्तु, रु. 19 में प्रत्येक के लिए 15 वस्तु खरीदे। यदि लाभ औसत लागत मूल्य पर 20 प्रतिशत माना गया तो प्रति वस्तु विक्रय मूल्य ज्ञात करें।

Options :

1. ✓ 18 रुपए
2. * 18.2 रुपए
3. * 17.75 रुपए
4. * 18.5 रुपए

Question Number : 93 Question Id : 54592732413 Question Type : MCQ Option Shuffling : Yes
Correct Marks : 1 Wrong Marks : 0.25

30 people went to a hotel for taking their meal. 29 of them spent Rs 12 each on their meals while the 30th person spent Rs 29 more than the average expenditure of the whole group. What was the total amount spent?

Options :

1. * Rs. 360
2. ✓ Rs. 390
3. * Rs. 435
4. * Rs. 480

Question Number : 93 Question Id : 54592732413 Question Type : MCQ Option Shuffling : Yes
Correct Marks : 1 Wrong Marks : 0.25

30 लोग अपना भोजन लेने के लिए होटल में गए। उनमें से 29 ने अपने प्रत्येक के भोजन पर रु. 12 खर्च किए, जबकि 30 वें व्यक्ति ने पूरे समूह के औसत खर्च से रु. 29 अधिक खर्च किए। कुल कितनी राशि खर्च की गई?

Options :

1. ✖ ₹. 360

2. ✔ ₹. 390

3. ✖ ₹. 435

4. ✖ ₹. 480

Question Number : 94 Question Id : 54592732414 Question Type : MCQ Option Shuffling : Yes
Correct Marks : 1 Wrong Marks : 0.25

Two students appeared for an examination. One student scored 20 marks more than the other and his score was 60 percent of the sum of their marks. What is his score?

Options :

1. ✖ 20

2. ✖ 40

3. ✔ 60

4. ✖ 80

Question Number : 94 Question Id : 54592732414 Question Type : MCQ Option Shuffling : Yes
Correct Marks : 1 Wrong Marks : 0.25

दो छात्र परीक्षा के लिए उपस्थित हुए। एक छात्र ने दूसरे की तुलना में 20 अंक अधिक प्राप्त किए और उसके अंक उनके अंकों के योग का 60 प्रतिशत था। उसने कितने अंक प्राप्त किए?

Options :

1. ✖ 20

2. ✖ 40

3. ✔ 60

4. ✖ 80

Question Number : 95 Question Id : 54592732415 Question Type : MCQ Option Shuffling : Yes
Correct Marks : 1 Wrong Marks : 0.25

In a certain school, 25 percent of the children are below 10 years of age. The number of students above 10 years is thrice the number of students aged 10 years which is 30. What is the total number of students in the school?

Options :

1. ✓ 160
2. ✗ 150
3. ✗ 180
4. ✗ 200

Question Number : 95 Question Id : 54592732415 Question Type : MCQ Option Shuffling : Yes

Correct Marks : 1 Wrong Marks : 0.25

किसी स्कूल में, 25 प्रतिशत बच्चे 10 वर्ष से कम उम्र के हैं। 10 वर्ष से अधिक के छात्रों की संख्या 10 वर्ष के छात्रों से तीन गुना है जो की 30 है। स्कूल में कुल छात्रों की संख्या कितनी है?

Options :

1. ✓ 160
2. ✗ 150
3. ✗ 180
4. ✗ 200

Question Number : 96 Question Id : 54592732416 Question Type : MCQ Option Shuffling : Yes

Correct Marks : 1 Wrong Marks : 0.25

If the price of a bicycle is increased by 9.09 percent, then by 8.33 percent and then by 7.69 percent, the price becomes Rs. 1400, then what is the original price of the bicycle?

Options :

1. ✗ Rs. 1000
2. ✗ Rs. 1001
3. ✓ Rs. 1100

4. * Rs. 990

Question Number : 96 Question Id : 54592732416 Question Type : MCQ Option Shuffling : Yes
Correct Marks : 1 Wrong Marks : 0.25

यदि साइकिल की कीमत में 9.09 प्रतिशत की वृद्धि हुई है, फिर 8.33 प्रतिशत और फिर 7.69 प्रतिशत की कीमत से, रु. 1400 हो जाती है, तो साइकिल की मूल कीमत क्या है?

Options :

1. * रु. 1000
2. * रु. 1001
3. ✓ रु. 1100
4. * रु. 990

Question Number : 97 Question Id : 54592732417 Question Type : MCQ Option Shuffling : Yes
Correct Marks : 1 Wrong Marks : 0.25

A cloth piece was purchased for Rs. 700. At what price should it be sold to get a profit of 12.5 percent after a tailoring charge of Rs. 20 was paid for?

Options :

1. * Rs. 760
2. * Rs. 785
3. ✓ Rs. 810
4. * Rs. 840

Question Number : 97 Question Id : 54592732417 Question Type : MCQ Option Shuffling : Yes
Correct Marks : 1 Wrong Marks : 0.25

एक कपड़े का टुकड़ा रु. 700 में खरीदा गया था। रु. 20 के सिलाई के भुगतान के बाद 12.5 प्रतिशत का लाभ प्राप्त करने के लिए इसे किस मूल्य पर बेचा जाना चाहिए?

Options :

1. * रु. 760

2. ✖ ₹. 785

3. ✔ ₹. 810

4. ✖ ₹. 840

Question Number : 98 Question Id : 54592732418 Question Type : MCQ Option Shuffling : Yes
Correct Marks : 1 Wrong Marks : 0.25

The profit of a product is 380 percent of the cost price. If the cost increase by 20 percent and the selling price remains constant, then what percentage of the selling price is the profit?

Options :

1. ✖ 50 percent

2. ✖ 60 percent

3. ✖ 66.67 percent

4. ✔ 75 percent

Question Number : 98 Question Id : 54592732418 Question Type : MCQ Option Shuffling : Yes
Correct Marks : 1 Wrong Marks : 0.25

किसी उत्पाद के लाभ का लागत मूल्य 380 प्रतिशत है। यदि लागत 20 प्रतिशत बढ़ जाता है और बिक्री मूल्य स्थिर रहता है, तो बिक्री मूल्य का कितना प्रतिशत लाभ है?

Options :

1. ✖ 50 प्रतिशत

2. ✖ 60 प्रतिशत

3. ✖ 66.67 प्रतिशत

4. ✔ 75 प्रतिशत

Question Number : 99 Question Id : 54592732419 Question Type : MCQ Option Shuffling : Yes
Correct Marks : 1 Wrong Marks : 0.25

Two books were sold at Rs. 750 each, one of them was sold at a profit of 50 percent and the other one was at a loss of 25 percent. To obtain an overall gain of 10 percent, what is the new minimum selling price of the book which was sold at a loss with no change in the price of the book sold at profit?

Options :

1. * Rs. 810
2. * Rs. 850
3. ✓ Rs. 900
4. * Rs. 925

Question Number : 99 Question Id : 54592732419 Question Type : MCQ Option Shuffling : Yes

Correct Marks : 1 Wrong Marks : 0.25

दो पुस्तकें रु. 750 में बेची गईं, उनमें से एक 50 प्रतिशत के लाभ पर बेची गई और दूसरे पर 25 प्रतिशत की हानि हुई। 10 प्रतिशत का पूर्ण लाभ प्राप्त करने के लिए, लाभ में बेची गई पुस्तक की कीमत में कोई बदलाव नहीं होने के साथ घाटे में बेची गई पुस्तक का नया न्यूनतम विक्रय मूल्य क्या है?

Options :

1. * रु. 810
2. * रु. 850
3. ✓ रु. 900
4. * रु. 925

Question Number : 100 Question Id : 54592732420 Question Type : MCQ Option Shuffling : Yes

Correct Marks : 1 Wrong Marks : 0.25

Two numbers are respectively 80 percent and 50 percent more than a third number. What is the ratio of the two numbers?

Options :

1. ✓ 6 : 5

2. ✗ 5 : 6

3. ✗ 8 : 5

4. ✗ 5 : 8

Question Number : 100 Question Id : 54592732420 Question Type : MCQ Option Shuffling : Yes
Correct Marks : 1 Wrong Marks : 0.25

दो संख्याएँ तीसरी संख्या से क्रमशः 80 प्रतिशत और 50 प्रतिशत अधिक हैं। दो संख्याओं का अनुपात क्या है?

Options :

1. ✓ 6 : 5

2. ✗ 5 : 6

3. ✗ 8 : 5

4. ✗ 5 : 8

Arithmetic Ability2

Group Number :	6
Group Id :	5459271606
Group Maximum Duration :	0
Group Minimum Duration :	0
Show Attended Group? :	No
Edit Attended Group? :	No
Break time:	0
Group Marks:	20
Is this Group for Examiner?:	No
Revisit allowed for group Instructions? :	Yes
Maximum Instruction Time:	0
Minimum Instruction Time:	0

Arithmetic Ability2

Section Id :	5459271606
Section Number :	1
Section type :	Online
Mandatory or Optional:	Mandatory
Number of Questions:	20

Number of Questions to be attempted: 20
Section Marks: 20

Sub-Section Number: 1
Sub-Section Id: 5459271926
Question Shuffling Allowed : Yes

Question Number : 101 Question Id : 54592732421 Question Type : MCQ Option Shuffling : Yes
Correct Marks : 1 Wrong Marks : 0.25

The ratio of 2 numbers is 4 : 5 and the sum of their cubes is 1512. Find the square of their difference.

Options :

- 1. ✖ 1
- 2. ✖ 2
- 3. ✖ 2.25
- 4. ✔ 4

Question Number : 101 Question Id : 54592732421 Question Type : MCQ Option Shuffling : Yes
Correct Marks : 1 Wrong Marks : 0.25

2 संख्याओं का अनुपात 4 : 5 है और उनके घन का योग 1512 है।
उनके अंतर का वर्ग ज्ञात करें।

Options :

- 1. ✖ 1
- 2. ✖ 2
- 3. ✖ 2.25
- 4. ✔ 4

Question Number : 102 Question Id : 54592732422 Question Type : MCQ Option Shuffling : Yes
Correct Marks : 1 Wrong Marks : 0.25

If $A : B : C = 3 : 4 : 5$, then what is value of $A/B : B/C : C/A$?

Options :

- 1. ✖ 45 : 48 : 90
- 2. ✔ 45 : 48 : 100

3. ✖ 45 : 48 : 92

4. ✖ 42 : 48 : 95

Question Number : 102 Question Id : 54592732422 Question Type : MCQ Option Shuffling : Yes

Correct Marks : 1 Wrong Marks : 0.25

यदि $A : B : C = 3 : 4 : 5$, तो $A/B : B/C : C/A$ का मूल्य क्या है?

Options :

1. ✖ 45 : 48 : 90

2. ✔ 45 : 48 : 100

3. ✖ 45 : 48 : 92

4. ✖ 42 : 48 : 95

Question Number : 103 Question Id : 54592732423 Question Type : MCQ Option Shuffling : Yes

Correct Marks : 1 Wrong Marks : 0.25

The difference between simple and compound interests compounded annually on a certain sum of money for 2 years at 6 percent p.a. is Rs. 3.6. What is the amount?

Options :

1. ✖ Rs. 750

2. ✖ Rs. 1250

3. ✖ Rs. 800

4. ✔ Rs. 1000

Question Number : 103 Question Id : 54592732423 Question Type : MCQ Option Shuffling : Yes

Correct Marks : 1 Wrong Marks : 0.25

6 प्रतिशत प्रति वर्ष के लिए 2 वर्ष एक निश्चित राशि पर सालाना चक्रवृद्धि से साधारण और चक्रवृद्धि ब्याज के बीच का अंतर रु. 3.6 है। राशि क्या है?

Options :

1. ✖ ₹. 750
2. ✖ ₹. 1250
3. ✖ ₹. 800
4. ✔ ₹. 1000

Question Number : 104 Question Id : 54592732424 Question Type : MCQ Option Shuffling : Yes
Correct Marks : 1 Wrong Marks : 0.25

There is a 60 percent increase in an amount in 6 years at simple interest. What will be the compound interest of Rs. 20,000 after 3 years at the same rate?

Options :

1. ✔ Rs. 6620
2. ✖ Rs. 4200
3. ✖ Rs. 3310
4. ✖ Rs. 8400

Question Number : 104 Question Id : 54592732424 Question Type : MCQ Option Shuffling : Yes
Correct Marks : 1 Wrong Marks : 0.25

साधारण ब्याज पर 6 वर्षों में राशि में 60 प्रतिशत की वृद्धि होती है। उसी दर पर 3 वर्ष बाद ₹. 20,000 का चक्रवृद्धि ब्याज क्या होगा?

Options :

1. ✔ ₹. 6620
2. ✖ ₹. 4200
3. ✖ ₹. 3310
4. ✖ ₹. 8400

Question Number : 105 Question Id : 54592732425 Question Type : MCQ Option Shuffling : Yes
Correct Marks : 1 Wrong Marks : 0.25

The difference between compound interest compounded annually and simple interest on a sum of Rs. 30,000 for 2 years is Rs. 192. What is the rate of interest per annum?

Options :

1. ✖ 6 percent
2. ✖ 7 percent
3. ✔ 8 percent
4. ✖ 9 percent

Question Number : 105 Question Id : 54592732425 Question Type : MCQ Option Shuffling : Yes

Correct Marks : 1 Wrong Marks : 0.25

सालाना चक्रवृद्धि ब्याज और 2 साल के लिए 30,000 रुपये की राशि पर साधारण ब्याज के बीच का अंतर 192 रुपये है। प्रति वर्ष ब्याज दर क्या है?

Options :

1. ✖ 6 प्रतिशत
2. ✖ 7 प्रतिशत
3. ✔ 8 प्रतिशत
4. ✖ 9 प्रतिशत

Question Number : 106 Question Id : 54592732426 Question Type : MCQ Option Shuffling : Yes

Correct Marks : 1 Wrong Marks : 0.25

An aeroplane covers a certain distance at a speed of 250 km/h in 4 hours. To cover the distance in 1 hour and 40 minutes, what should be its speed?

Options :

1. ✖ 500 km/h
2. ✖ 550 km/h
3. ✔ 600 km/h

4. ✖ 675 km/h

Question Number : 106 Question Id : 54592732426 Question Type : MCQ Option Shuffling : Yes

Correct Marks : 1 Wrong Marks : 0.25

एयरो प्लेन 4 घंटे में 250 km/h की गति से एक निश्चित दूरी तय करता है। 1 घंटा और 40 मिनट में दूरी तय करने के लिए, इसकी गति क्या होनी चाहिए?

Options :

1. ✖ 500 km/h

2. ✖ 550 km/h

3. ✔ 600 km/h

4. ✖ 675 km/h

Question Number : 107 Question Id : 54592732427 Question Type : MCQ Option Shuffling : Yes

Correct Marks : 1 Wrong Marks : 0.25

A man completes a journey in 5 hours. He travels first half of the journey at the rate of 21 km/h and the second half at 24 km/h. Find the total distance travelled.

Options :

1. ✔ 112 km

2. ✖ 116 km

3. ✖ 120 km

4. ✖ 124 km

Question Number : 107 Question Id : 54592732427 Question Type : MCQ Option Shuffling : Yes

Correct Marks : 1 Wrong Marks : 0.25

एक आदमी 5 घंटे में एक यात्रा पूरी करता है। वह यात्रा का पहला आधा भाग 21 km/h और दूसरा आधा 24 km/h की दर से तय करता है। कुल तय की गई दूरी ज्ञात करें।

Options :

1. ✓ 112 km

2. ✗ 116 km

3. ✗ 120 km

4. ✗ 124 km

Question Number : 108 Question Id : 54592732428 Question Type : MCQ Option Shuffling : Yes

Correct Marks : 1 Wrong Marks : 0.25

The ratio between the speed of 2 trains is 3 : 4. If the second train covers 480 km in 4 hours, then what is the speed of the first train?

Options :

1. ✗ 20 m/s

2. ✗ 22.5 m/s

3. ✓ 25 m/s

4. ✗ 30 m/s

Question Number : 108 Question Id : 54592732428 Question Type : MCQ Option Shuffling : Yes

Correct Marks : 1 Wrong Marks : 0.25

2 रेलगाड़ियों की गति के बीच का अनुपात 3:4 है। यदि दूसरी रेलगाड़ी 4 घंटे में 480 km की दूरी तय करती है, तो पहली रेलगाड़ी की गति क्या है?

Options :

1. ✗ 20 m/s

2. ✗ 22.5 m/s

3. ✓ 25 m/s

4. ✗ 30 m/s

Question Number : 109 Question Id : 54592732429 Question Type : MCQ Option Shuffling : Yes

Correct Marks : 1 Wrong Marks : 0.25

If A can do a work in 20 days, find the number of days in which B can do the work alone if they can together finish the work in 10 days.

Options :

1. ✖ 18

2. ✔ 20

3. ✖ 22

4. ✖ 24

Question Number : 109 Question Id : 54592732429 Question Type : MCQ Option Shuffling : Yes

Correct Marks : 1 Wrong Marks : 0.25

यदि A किसी कार्य को 20 दिनों में पूरा कर सकता है, तो ज्ञात करें B कितने दिनों में वह कार्य पूरा कर सकता है, यदि वे एक साथ 10 दिनों में कार्य को पूरा कर सकते हैं।

Options :

1. ✖ 18

2. ✔ 20

3. ✖ 22

4. ✖ 24

Question Number : 110 Question Id : 54592732430 Question Type : MCQ Option Shuffling : Yes

Correct Marks : 1 Wrong Marks : 0.25

If A can do a work in 32 days and B is twice as efficient as A. In how many days more will the work be completed if B joins A on the 3rd day and then they work together?

Options :

1. ✖ 9

2. ✔ 10

3. ✖ 11

4. * 12

Question Number : 110 Question Id : 54592732430 Question Type : MCQ Option Shuffling : Yes

Correct Marks : 1 Wrong Marks : 0.25

यदि A 32 दिनों में एक काम कर सकता है और B, A की तुलना में दो गुना कुशल है। यदि तीसरे दिन B, A के साथ शामिल होता है और फिर वे एक साथ काम करते हैं तो कितने दिनों में कार्य पूरा होगा?

Options :

1. * 9

2. ✓ 10

3. * 11

4. * 12

Question Number : 111 Question Id : 54592732431 Question Type : MCQ Option Shuffling : Yes

Correct Marks : 1 Wrong Marks : 0.25

A and B can do a work in 10 days, B and C can do the work in 6 days while A, B and C can do the work in 4 days, in how many days can C do the work alone?

Options :

1. * 5.33

2. * 5.67

3. * 6.33

4. ✓ 6.67

Question Number : 111 Question Id : 54592732431 Question Type : MCQ Option Shuffling : Yes

Correct Marks : 1 Wrong Marks : 0.25

A और B 10 दिनों में एक कार्य कर सकते हैं, B और C कार्य को 6 दिनों में कर सकते हैं जबकि A, B और C कार्य को 4 दिनों में कर सकते हैं, जबकि C अकेले कितने दिनों में कार्य कर सकता है?

Options :

1. ✖ 5.33

2. ✖ 5.67

3. ✖ 6.33

4. ✔ 6.67

Question Number : 112 Question Id : 54592732432 Question Type : MCQ Option Shuffling : Yes
Correct Marks : 1 Wrong Marks : 0.25

The total surface area of a hemisphere is 462 cm^2 . What is its diameter?

Options :

1. ✖ 7 cm

2. ✖ 10.5 cm

3. ✔ 14 cm

4. ✖ 21 cm

Question Number : 112 Question Id : 54592732432 Question Type : MCQ Option Shuffling : Yes
Correct Marks : 1 Wrong Marks : 0.25

एक गोलार्ध का कुल सतह क्षेत्र 462 cm^2 है। इसका व्यास क्या है?

Options :

1. ✖ 7 cm

2. ✖ 10.5 cm

3. ✔ 14 cm

4. ✖ 21 cm

Question Number : 113 Question Id : 54592732433 Question Type : MCQ Option Shuffling : Yes
Correct Marks : 1 Wrong Marks : 0.25

Find the side of a cube if a cuboid of sides measuring 6 cm, 16 cm and 18 cm is melted and is reformed to make a cube.

Options :

1. ✖ 11 cm
2. ✖ 11.25 cm
3. ✔ 12 cm
4. ✖ 12.5 cm

Question Number : 113 Question Id : 54592732433 Question Type : MCQ Option Shuffling : Yes
Correct Marks : 1 Wrong Marks : 0.25

एक घन की भुजा को ज्ञात करें यदि 6 cm, 16 cm और 18 cm के माप वाली भुजाओं का एक घनाभ पिघल जाता है और घन बनाने के लिए सुधार किया जाता है।

Options :

1. ✖ 11 cm
2. ✖ 11.25 cm
3. ✔ 12 cm
4. ✖ 12.5 cm

Question Number : 114 Question Id : 54592732434 Question Type : MCQ Option Shuffling : Yes
Correct Marks : 1 Wrong Marks : 0.25

A sphere of radius 10 cm is melted and made into a cone of height 10 cm. Find the diameter the cone.

Options :

1. ✖ 10 cm
2. ✖ 20 cm
3. ✔ 40 cm
4. ✖ 80 cm

Question Number : 114 Question Id : 54592732434 Question Type : MCQ Option Shuffling : Yes
Correct Marks : 1 Wrong Marks : 0.25

10 cm त्रिज्या के एक गोले को पिघलाकर 10 cm की ऊंचाई का शंकु बनाया जाता है। शंकु का व्यास ज्ञात करें।

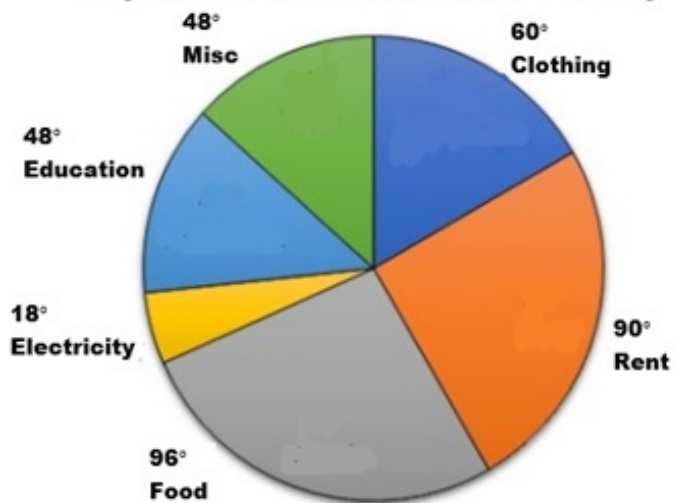
Options :

1. ✘ 10 cm
2. ✘ 20 cm
3. ✔ 40 cm
4. ✘ 80 cm

Question Number : 115 Question Id : 54592732435 Question Type : MCQ Option Shuffling : Yes
Correct Marks : 1 Wrong Marks : 0.25

The pie chart shows the various kinds of expenses of a particular family. If the amount spent on electricity is Rs. 1000, then what is the total amount spent on food and education?

Expenses of a Particular Family



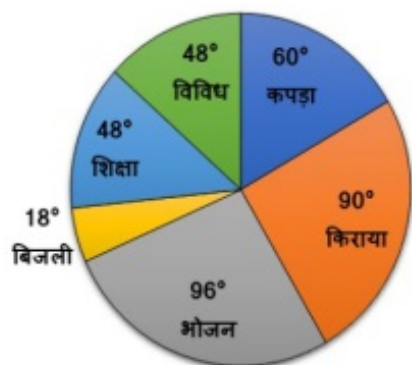
Options :

1. ✘ Rs. 6000
2. ✘ Rs. 7000
3. ✔ Rs. 8000
4. ✘ Rs. 9000

Question Number : 115 Question Id : 54592732435 Question Type : MCQ Option Shuffling : Yes
Correct Marks : 1 Wrong Marks : 0.25

पाइ चार्ट विशिष्ठ परिवार में विभिन्न प्रकार के खर्चों को दर्शाता है। यदि बिजली पर खर्च होने वाली राशि रु. 1000 है, तो भोजन और शिक्षा पर खर्च की जाने वाली कुल राशि क्या है?

एक विशेष परिवार के खर्च



Options :

1. ✘ रु. 6000
2. ✘ रु. 7000
3. ✔ रु. 8000
4. ✘ रु. 9000

Question Number : 116 Question Id : 54592732436 Question Type : MCQ Option Shuffling : Yes
Correct Marks : 1 Wrong Marks : 0.25

The pie chart depicts the distribution of the expenses of a particular company. If the company's sales are Rs. 1,00,000 and 80 percent of the revenue is allocated towards expenses, then what is the total amount spent on Finance and HR?



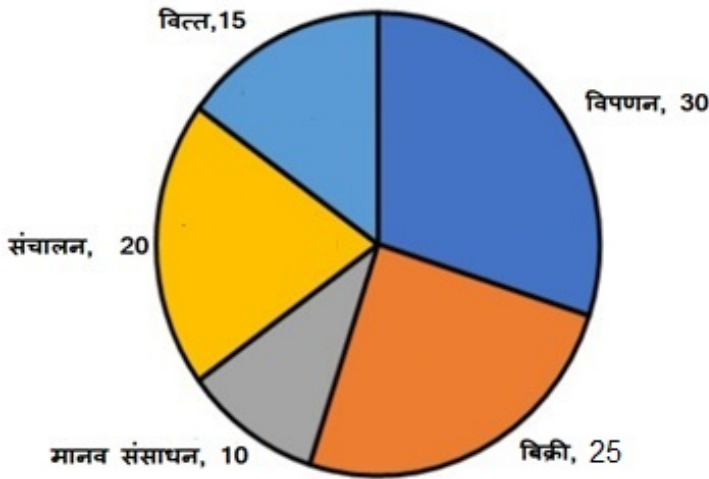
Options :

1. ✓ Rs. 20000
2. ✗ Rs. 25000
3. ✗ Rs. 32000
4. ✗ Rs. 16000

Question Number : 116 Question Id : 54592732436 Question Type : MCQ Option Shuffling : Yes
Correct Marks : 1 Wrong Marks : 0.25

पाइ चार्ट में किसी विशेष कंपनी के खर्चों के वितरण को दर्शाया गया है।
यदि कंपनी की बिक्री रु. 1,00,000 है और 80 प्रतिशत मुनाफा खर्चों के लिए आवंटित किया जाता है, तो वित्त और मानव संसाधन पर खर्च की गई कुल राशि क्या है?

कंपनी A के खर्चों का वितरण



Options :

1. ✓ रु. 20000
2. ✗ रु. 25000
3. ✗ रु. 32000
4. ✗ रु. 16000

Question Number : 117 Question Id : 54592732437 Question Type : MCQ Option Shuffling : Yes

Correct Marks : 1 Wrong Marks : 0.25

The table shows the distribution of the marks obtained by various students in a class. What is the ratio of the number of students getting >60 percent in geometry and >40 percent in algebra to >40 percent in geometry and >60 percent in algebra?

Subject	Marks out of 50				
	40 and above	30 and above	20 and above	10 and above	0 and above
Algebra	10	30	80	90	100
Geometry	4	20	70	80	100
Average (Aggregate)	7	25	75	85	100

Options :

1. ✓ 1 : 1

2. ✗ 1 : 2

3. ✗ 2 : 3

4. ✗ 3 : 2

Question Number : 117 Question Id : 54592732437 Question Type : MCQ Option Shuffling : Yes

Correct Marks : 1 Wrong Marks : 0.25

तालिका एक कक्षा में विभिन्न छात्रों द्वारा प्राप्त अंकों के वितरण को दर्शाती है। छात्रों के ज्यामिति में >60 प्रतिशत और बीजगणित में >40 प्रतिशत से बीजगणित में >40 प्रतिशत और ज्यामिति में >60 प्रतिशत का अनुपात क्या है?

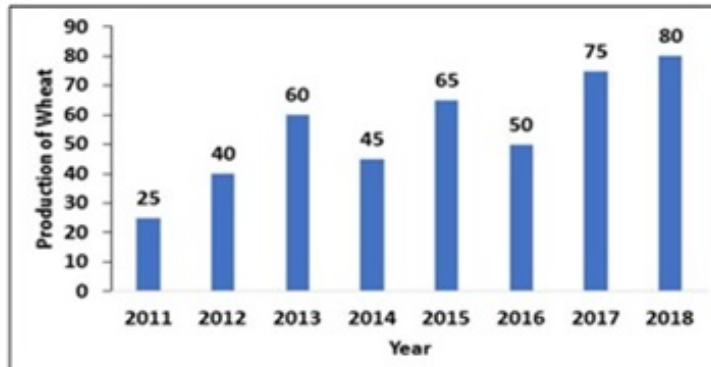
विषय	50 में से अंक				
	40 और ऊपर	30 और ऊपर	20 और ऊपर	10 और ऊपर	0 और ऊपर
बीजगणित	10	30	80	90	100
ज्यामिति	4	20	70	80	100
औसत (अलग)	7	25	75	85	100

Options :

1. ✓ 1 : 1
2. ✗ 1 : 2
3. ✗ 2 : 3
4. ✗ 3 : 2

Question Number : 118 Question Id : 54592732438 Question Type : MCQ Option Shuffling : Yes
Correct Marks : 1 Wrong Marks : 0.25

The bar graph below shows the production of wheat (in tonnes) by a big farm over the years. In how many of the given years was the production of wheat more than the previous year?

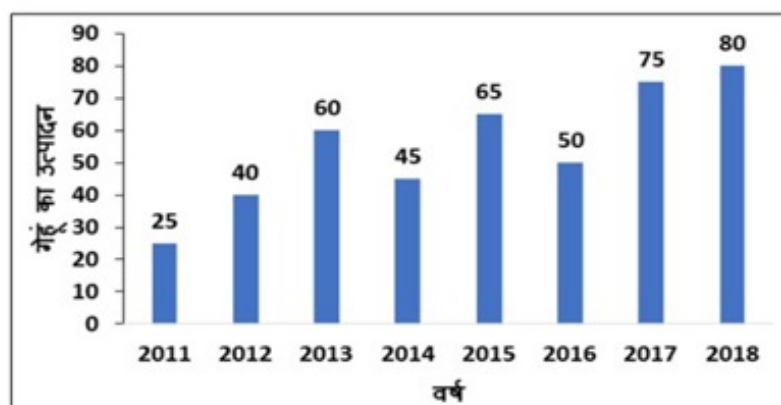


Options :

1. ✖ 4
2. ✔ 5
3. ✖ 6
4. ✖ 7

Question Number : 118 Question Id : 54592732438 Question Type : MCQ Option Shuffling : Yes
Correct Marks : 1 Wrong Marks : 0.25

नीचे दिया गया बार ग्राफ वर्षों में एक बड़े खेत द्वारा गेहूं (टन में) का उत्पादन दिखाता है। पिछले वर्ष की तुलना में कितने वर्षों में गेहूं का उत्पादन अधिक हुआ था?



Options :

1. ✘ 4

2. ✔ 5

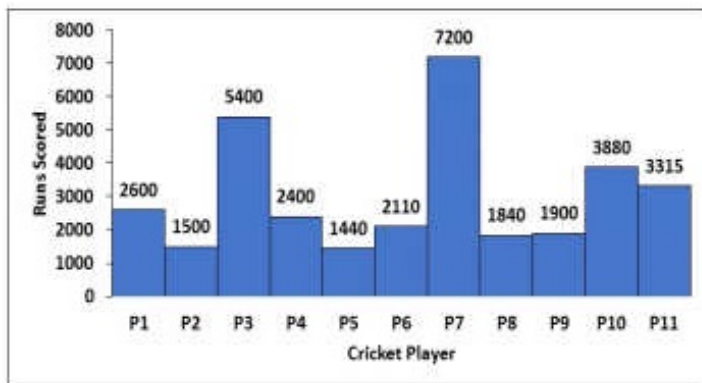
3. ✘ 6

4. ✘ 7

Question Number : 119 Question Id : 54592732439 Question Type : MCQ Option Shuffling : Yes

Correct Marks : 1 Wrong Marks : 0.25

The histogram shows the runs scored by eleven cricket players named P1,P2,P3,P4, ... P11 in their respective careers which lasted for 5 years. How many more runs scored by the player P3 would have made the ratio of the runs scored by the players P3 and P7 as 5 : 6?



Options :

1. ✘ 450

2. ✘ 500

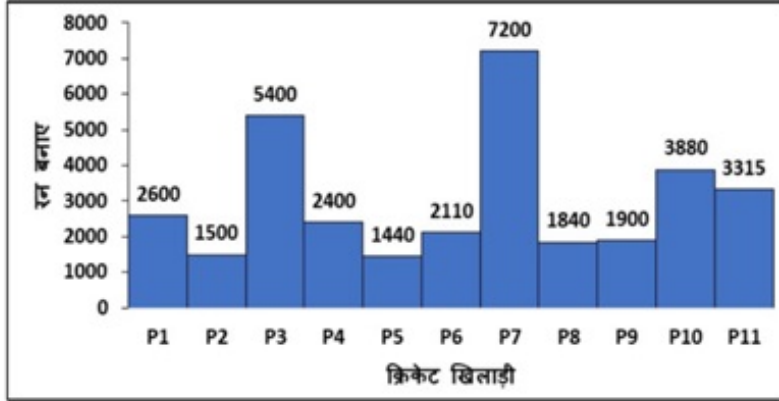
3. ✘ 550

4. ✔ 600

Question Number : 119 Question Id : 54592732439 Question Type : MCQ Option Shuffling : Yes

Correct Marks : 1 Wrong Marks : 0.25

आयतचित्र, P1, P2, P3, P4, ... P11 नाम के ग्यारह क्रिकेट खिलाड़ियों के संबंधित करियर द्वारा बनाए गए रनों को दिखाता है जो 5 साल तक चला है। खिलाड़ी P3 और P7 द्वारा रन के अनुपात के लिए 5 : 6 के रूप में कितने और रन बनाए होंगे?



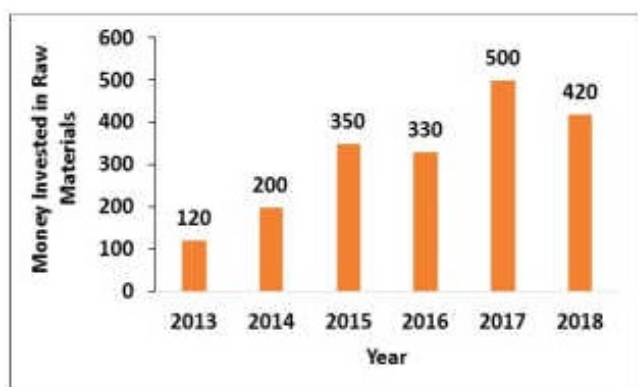
Options :

1. ✘ 450
2. ✘ 500
3. ✘ 550
4. ✔ 600

Question Number : 120 Question Id : 54592732440 Question Type : MCQ Option Shuffling : Yes

Correct Marks : 1 Wrong Marks : 0.25

The bar chart shows the money invested in raw materials (in Rs. lakhs) over a period of time. If the average value of the finished goods during the same period is Rs. 400 lakhs, then what is the profit percentage?

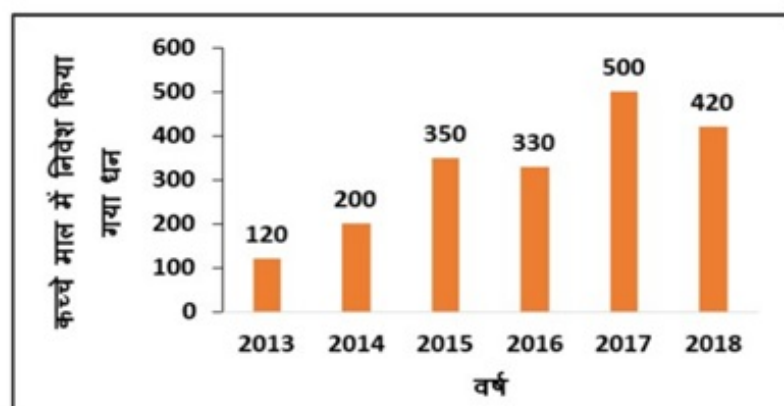


Options :

1. ✓ 20 percent
2. ✗ 22.50 percent
3. ✗ 25 percent
4. ✗ 30 percent

Question Number : 120 Question Id : 54592732440 Question Type : MCQ Option Shuffling : Yes
Correct Marks : 1 Wrong Marks : 0.25

बार चार्ट कच्चे माल में निवेश किए गए धन को (लाख रुपये में) समय के साथ दर्शाता है। यदि इसी अवधि के दौरान तैयार माल का औसत मूल्य रु. 400 लाख है, तो लाभ प्रतिशत क्या है?



Options :

1. ✓ 20 प्रतिशत

2. ✘ 22.50 प्रतिशत

3. ✘ 25 प्रतिशत

4. ✘ 30 प्रतिशत

General English1

Group Number :	7
Group Id :	5459271607
Group Maximum Duration :	0
Group Minimum Duration :	0
Show Attended Group? :	No
Edit Attended Group? :	No
Break time:	0
Group Marks:	20
Is this Group for Examiner?:	No
Revisit allowed for group Instructions? :	Yes
Maximum Instruction Time:	0
Minimum Instruction Time:	0

General English1

Section Id :	5459271607
Section Number :	1
Section type :	Online
Mandatory or Optional:	Mandatory
Number of Questions:	20
Number of Questions to be attempted:	20
Section Marks:	20

Sub-Section Number:	1
Sub-Section Id:	5459271927
Question Shuffling Allowed :	Yes

Question Number : 121 Question Id : 54592732441 Question Type : MCQ Option Shuffling : Yes
Correct Marks : 1 Wrong Marks : 0.25

The sentence below has been divided into three parts. Select the part of the sentence that has an error. If the sentence has no error, select the option 'No Error'.

Rajiv gone / to his sister's home / to celebrate rakshabandhan.

Options :

1. ✓ Rajiv gone
2. ✗ to his sister's home
3. ✗ to celebrate rakshabandhan.
4. ✗ No Error

Question Number : 121 Question Id : 54592732441 Question Type : MCQ Option Shuffling : Yes
Correct Marks : 1 Wrong Marks : 0.25

The sentence below has been divided into three parts. Select the part of the sentence that has an error. If the sentence has no error, select the option 'No Error'.

Rajiv gone / to his sister's home / to celebrate rakshabandhan.

Options :

1. ✓ Rajiv gone
2. ✗ to his sister's home
3. ✗ to celebrate rakshabandhan.
4. ✗ No Error

Question Number : 122 Question Id : 54592732442 Question Type : MCQ Option Shuffling : Yes
Correct Marks : 1 Wrong Marks : 0.25

The sentence below has been divided into three parts. Select the part of the sentence that has an error. If the sentence has no error, select the option 'No Error'.

Priyanka called her husband / and asked him / that he buy some vegetables.

Options :

1. ✖ Priyanka called her husband
2. ✖ and asked him
3. ✔ that he buy some vegetables.
4. ✖ No Error

Question Number : 122 Question Id : 54592732442 Question Type : MCQ Option Shuffling : Yes
Correct Marks : 1 Wrong Marks : 0.25

The sentence below has been divided into three parts. Select the part of the sentence that has an error. If the sentence has no error, select the option 'No Error'.

Priyanka called her husband / and asked him / that he buy some vegetables.

Options :

1. ✖ Priyanka called her husband
2. ✖ and asked him
3. ✔ that he buy some vegetables.
4. ✖ No Error

Question Number : 123 Question Id : 54592732443 Question Type : MCQ Option Shuffling : Yes
Correct Marks : 1 Wrong Marks : 0.25

The sentence below has been divided into three parts. Select the part of the sentence that has an error. If the sentence has no error, select the option 'No Error'.

The deadly disease / led to the patient's death / even before he realize it.

Options :

1. ✖ The deadly disease
2. ✖ led to the patient's death
3. ✔ even before he realize it.
4. ✖ No Error

Question Number : 123 Question Id : 54592732443 Question Type : MCQ Option Shuffling : Yes
Correct Marks : 1 Wrong Marks : 0.25

The sentence below has been divided into three parts. Select the part of the sentence that has an error. If the sentence has no error, select the option 'No Error'.

The deadly disease / led to the patient's death / even before he realize it.

Options :

1. ✖ The deadly disease
2. ✖ led to the patient's death
3. ✔ even before he realize it.
4. ✖ No Error

Question Number : 124 Question Id : 54592732444 Question Type : MCQ Option Shuffling : Yes
Correct Marks : 1 Wrong Marks : 0.25

The sentence below has been divided into three parts. Select the part of the sentence that has an error. If the sentence has no error, select the option 'No Error'.

He was looking / funny like a joker / in his yellow trouser.

Options :

1. ✖ He was looking
2. ✖ funny like a joker
3. ✔ in his yellow trouser.
4. ✖ No Error

Question Number : 124 Question Id : 54592732444 Question Type : MCQ Option Shuffling : Yes
Correct Marks : 1 Wrong Marks : 0.25

The sentence below has been divided into three parts. Select the part of the sentence that has an error. If the sentence has no error, select the option 'No Error'.

He was looking / funny like a joker / in his yellow trouser.

Options :

1. ✖ He was looking
2. ✖ funny like a joker
3. ✔ in his yellow trouser.
4. ✖ No Error

Question Number : 125 Question Id : 54592732445 Question Type : MCQ Option Shuffling : Yes
Correct Marks : 1 Wrong Marks : 0.25

The sentence below has been divided into three parts. Select the part of the sentence that has an error. If the sentence has no error, select the option 'No Error'.

I did not like / the beginning and the end / of the movie.

Options :

1. ✖ I did not like
2. ✖ the beginning and the end
3. ✖ of the movie.
4. ✔ No Error

Question Number : 125 Question Id : 54592732445 Question Type : MCQ Option Shuffling : Yes
Correct Marks : 1 Wrong Marks : 0.25

The sentence below has been divided into three parts. Select the part of the sentence that has an error. If the sentence has no error, select the option 'No Error'.

I did not like / the beginning and the end / of the movie.

Options :

1. ✖ I did not like
2. ✖ the beginning and the end
3. ✖ of the movie.
4. ✔ No Error

Question Number : 126 Question Id : 54592732446 Question Type : MCQ Option Shuffling : Yes
Correct Marks : 1 Wrong Marks : 0.25

Select the word segment that substitutes (replaces) the bracketed word segment correctly and completes the sentence meaningfully. Select the option 'no correction required' if the sentence is correct as given.

The dog refused to eat (till his owner arrived).

Options :

1. ✖ uptill his owner arrives
2. ✔ until his owner arrived
3. ✖ unless his owner arrived
4. ✖ No correction required

Question Number : 126 Question Id : 54592732446 Question Type : MCQ Option Shuffling : Yes
Correct Marks : 1 Wrong Marks : 0.25

Select the word segment that substitutes (replaces) the bracketed word segment correctly and completes the sentence meaningfully. Select the option 'no correction required' if the sentence is correct as given.

The dog refused to eat (till his owner arrived).

Options :

1. ✖ uptill his owner arrives
2. ✔ until his owner arrived
3. ✖ unless his owner arrived
4. ✖ No correction required

Question Number : 127 Question Id : 54592732447 Question Type : MCQ Option Shuffling : Yes
Correct Marks : 1 Wrong Marks : 0.25

Select the word segment that substitutes (replaces) the bracketed word segment correctly and completes the sentence meaningfully. Select the option 'no correction required' if the sentence is correct as given.

(I have done good) in the interview because I had studied for it.

Options :

1. ✖ I have did good
2. ✖ I did good
3. ✔ I have done well
4. ✖ No correction required

Question Number : 127 Question Id : 54592732447 Question Type : MCQ Option Shuffling : Yes
Correct Marks : 1 Wrong Marks : 0.25

Select the word segment that substitutes (replaces) the bracketed word segment correctly and completes the sentence meaningfully. Select the option 'no correction required' if the sentence is correct as given.

(I have done good) in the interview because I had studied for it.

Options :

1. ✖ I have did good
2. ✖ I did good
3. ✔ I have done well
4. ✖ No correction required

Question Number : 128 Question Id : 54592732448 Question Type : MCQ Option Shuffling : Yes
Correct Marks : 1 Wrong Marks : 0.25

Select the word segment that substitutes (replaces) the bracketed word segment correctly and completes the sentence meaningfully. Select the option 'no correction required' if the sentence is correct as given.

Not only did she write the song (but she sang it, too).

Options :

1. ✓ but also sang it
2. ✗ but sang also
3. ✗ but sang it
4. ✗ No correction required

Question Number : 128 Question Id : 54592732448 Question Type : MCQ Option Shuffling : Yes
Correct Marks : 1 Wrong Marks : 0.25

Select the word segment that substitutes (replaces) the bracketed word segment correctly and completes the sentence meaningfully. Select the option 'no correction required' if the sentence is correct as given.

Not only did she write the song (but she sang it, too).

Options :

1. ✓ but also sang it
2. ✗ but sang also
3. ✗ but sang it
4. ✗ No correction required

Question Number : 129 Question Id : 54592732449 Question Type : MCQ Option Shuffling : Yes
Correct Marks : 1 Wrong Marks : 0.25

Select the word segment that substitutes (replaces) the bracketed word segment correctly and completes the sentence meaningfully. Select the option 'no correction required' if the sentence is correct as given.

(The soldiers lie quietly in the trench) and waited for the reinforcements to arrive.

Options :

1. ✖ The soldiers lied quietly in the trench
2. ✖ The soldiers laid quietly in the trench
3. ✔ The soldiers lay quietly in the trench
4. ✖ No correction required

Question Number : 129 Question Id : 54592732449 Question Type : MCQ Option Shuffling : Yes
Correct Marks : 1 Wrong Marks : 0.25

Select the word segment that substitutes (replaces) the bracketed word segment correctly and completes the sentence meaningfully. Select the option 'no correction required' if the sentence is correct as given.

(The soldiers lie quietly in the trench) and waited for the reinforcements to arrive.

Options :

1. ✖ The soldiers lied quietly in the trench
2. ✖ The soldiers laid quietly in the trench
3. ✔ The soldiers lay quietly in the trench
4. ✖ No correction required

Question Number : 130 Question Id : 54592732450 Question Type : MCQ Option Shuffling : Yes
Correct Marks : 1 Wrong Marks : 0.25

Select the word segment that substitutes (replaces) the bracketed word segment correctly and completes the sentence meaningfully. Select the option 'no correction required' if the sentence is correct as given.

Mayank loves (to sing and dancing).

Options :

1. ✖ singing and to dance
2. ✔ singing and dancing
3. ✖ to sing and dances
4. ✖ No correction required

Question Number : 130 Question Id : 54592732450 Question Type : MCQ Option Shuffling : Yes
Correct Marks : 1 Wrong Marks : 0.25

Select the word segment that substitutes (replaces) the bracketed word segment correctly and completes the sentence meaningfully. Select the option 'no correction required' if the sentence is correct as given.

Mayank loves (to sing and dancing).

Options :

1. ✖ singing and to dance
2. ✔ singing and dancing
3. ✖ to sing and dances
4. ✖ No correction required

Question Number : 131 Question Id : 54592732451 Question Type : MCQ Option Shuffling : Yes
Correct Marks : 1 Wrong Marks : 0.25

Select the word that fills in the blank correctly and completes the sentence meaningfully.

The _____ boys continued to throw pebbles into the lake and hurt the frogs.

Options :

1. ✖ noble
2. ✖ honest
3. ✔ naughty
4. ✖ sporty

Question Number : 131 Question Id : 54592732451 Question Type : MCQ Option Shuffling : Yes
Correct Marks : 1 Wrong Marks : 0.25

Select the word that fills in the blank correctly and completes the sentence meaningfully.

The _____ boys continued to throw pebbles into the lake and hurt the frogs.

Options :

1. ✖ noble
2. ✖ honest
3. ✔ naughty
4. ✖ sporty

Question Number : 132 Question Id : 54592732452 Question Type : MCQ Option Shuffling : Yes
Correct Marks : 1 Wrong Marks : 0.25

Select the word that fills in the blank correctly and completes the sentence meaningfully.

The captain _____ the new team this afternoon.

Options :

1. ✘ polled
2. ✘ revoked
3. ✔ announced
4. ✘ exclaimed

Question Number : 132 Question Id : 54592732452 Question Type : MCQ Option Shuffling : Yes
Correct Marks : 1 Wrong Marks : 0.25

Select the word that fills in the blank correctly and completes the sentence meaningfully.

The captain _____ the new team this afternoon.

Options :

1. ✘ polled
2. ✘ revoked
3. ✔ announced
4. ✘ exclaimed

Question Number : 133 Question Id : 54592732453 Question Type : MCQ Option Shuffling : Yes
Correct Marks : 1 Wrong Marks : 0.25

Select the word that fills in the blank correctly and completes the sentence meaningfully.

The fans were _____ when the team won the fourth match in a row.

Options :

1. ✖ miserable
2. ✔ euphoric
3. ✖ indifferent
4. ✖ placid

Question Number : 133 Question Id : 54592732453 Question Type : MCQ Option Shuffling : Yes
Correct Marks : 1 Wrong Marks : 0.25

Select the word that fills in the blank correctly and completes the sentence meaningfully.

The fans were _____ when the team won the fourth match in a row.

Options :

1. ✖ miserable
2. ✔ euphoric
3. ✖ indifferent
4. ✖ placid

Question Number : 134 Question Id : 54592732454 Question Type : MCQ Option Shuffling : Yes
Correct Marks : 1 Wrong Marks : 0.25

Select the word that fills in the blank correctly and completes the sentence meaningfully.

Padma realised it was _____ to worry about things beyond her control.

Options :

1. ✔ futile
2. ✖ tumultuous
3. ✖ deplorable

4. ✖ atrocious

Question Number : 134 Question Id : 54592732454 Question Type : MCQ Option Shuffling : Yes
Correct Marks : 1 Wrong Marks : 0.25

Select the word that fills in the blank correctly and completes the sentence meaningfully.

Padma realised it was _____ to worry about things beyond her control.

Options :

1. ✔ futile
2. ✖ tumultuous
3. ✖ deplorable
4. ✖ atrocious

Question Number : 135 Question Id : 54592732455 Question Type : MCQ Option Shuffling : Yes
Correct Marks : 1 Wrong Marks : 0.25

Select the word that fills in the blank correctly and completes the sentence meaningfully.

The Supreme Court _____ the lower court's verdict and awarded death penalty to the terrorist.

Options :

1. ✖ perturbed
2. ✖ propagated
3. ✔ upheld
4. ✖ propitiated

Question Number : 135 Question Id : 54592732455 Question Type : MCQ Option Shuffling : Yes
Correct Marks : 1 Wrong Marks : 0.25

Select the word that fills in the blank correctly and completes the sentence meaningfully.

The Supreme Court _____ the lower court's verdict and awarded death penalty to the terrorist.

Options :

1. ✖ perturbed
2. ✖ propagated
3. ✔ upheld
4. ✖ propitiated

Question Number : 136 Question Id : 54592732456 Question Type : MCQ Option Shuffling : Yes

Correct Marks : 1 Wrong Marks : 0.25

Select the word that fills in the blank correctly and completes the sentence meaningfully.

In an _____ attempt, the army crossed the border and destroyed the terrorist camps there.

Options :

1. ✔ audacious
2. ✖ impish
3. ✖ atrocious
4. ✖ indiscreet

Question Number : 136 Question Id : 54592732456 Question Type : MCQ Option Shuffling : Yes

Correct Marks : 1 Wrong Marks : 0.25

Select the word that fills in the blank correctly and completes the sentence meaningfully.

In an _____ attempt, the army crossed the border and destroyed the terrorist camps there.

Options :

1. ✓ audacious
2. ✗ impish
3. ✗ atrocious
4. ✗ indiscreet

Question Number : 137 Question Id : 54592732457 Question Type : MCQ Option Shuffling : Yes

Correct Marks : 1 Wrong Marks : 0.25

Select the word that fills in the blank correctly and completes the sentence meaningfully.

The route to my ancestral village is _____.

Options :

1. ✗ scenery
2. ✗ scene
3. ✓ scenic
4. ✗ scenically

Question Number : 137 Question Id : 54592732457 Question Type : MCQ Option Shuffling : Yes

Correct Marks : 1 Wrong Marks : 0.25

Select the word that fills in the blank correctly and completes the sentence meaningfully.

The route to my ancestral village is _____.

Options :

1. ✘ scenery
2. ✘ scene
3. ✔ scenic
4. ✘ scenically

Question Number : 138 Question Id : 54592732458 Question Type : MCQ Option Shuffling : Yes
Correct Marks : 1 Wrong Marks : 0.25

Select the word that fills in the blank correctly and completes the sentence meaningfully.

Every time he makes a mistake, he sincerely _____.

Options :

1. ✘ apologised
2. ✘ apologies
3. ✔ apologises
4. ✘ apologetic

Question Number : 138 Question Id : 54592732458 Question Type : MCQ Option Shuffling : Yes
Correct Marks : 1 Wrong Marks : 0.25

Select the word that fills in the blank correctly and completes the sentence meaningfully.

Every time he makes a mistake, he sincerely _____.

Options :

1. ✖ apologised

2. ✖ apologies

3. ✔ apologises

4. ✖ apologetic

Question Number : 139 Question Id : 54592732459 Question Type : MCQ Option Shuffling : Yes

Correct Marks : 1 Wrong Marks : 0.25

Some parts of a sentence have been jumbled up, and labeled P, Q, R and S. Select the option that gives the correct sequence in which these parts can be rearranged to form a meaningful and grammatically correct sentence.

P: with some foresight and early care

Q: due to low blood sugar level

R: could have easily been prevented

S: the death of over 90 children in Muzaffarpur

Options :

1. ✖ PQRS

2. ✖ SPRQ

3. ✔ SQRP

4. ✖ PRSQ

Question Number : 139 Question Id : 54592732459 Question Type : MCQ Option Shuffling : Yes

Correct Marks : 1 Wrong Marks : 0.25

Some parts of a sentence have been jumbled up, and labeled P, Q, R and S. Select the option that gives the correct sequence in which these parts can be rearranged to form a meaningful and grammatically correct sentence.

P: with some foresight and early care

Q: due to low blood sugar level

R: could have easily been prevented

S: the death of over 90 children in Muzaffarpur

Options :

1. ✘ PQRS

2. ✘ SPRQ

3. ✔ SQRP

4. ✘ PRSQ

Question Number : 140 Question Id : 54592732460 Question Type : MCQ Option Shuffling : Yes

Correct Marks : 1 Wrong Marks : 0.25

Some parts of a sentence have been jumbled up, and labeled P, Q, R and S. Select the option that gives the correct sequence in which these parts can be rearranged to form a meaningful and grammatically correct sentence.

P: that places greater stress

Q: and genuine responsibility

R: on moral sensitivity, ethical uprightness

S: politics is an area of human endeavour

Options :

1. ✘ RPQS

2. ✓ SPRQ

3. ✗ SQRP

4. ✗ SRPQ

Question Number : 140 Question Id : 54592732460 Question Type : MCQ Option Shuffling : Yes
Correct Marks : 1 Wrong Marks : 0.25

Some parts of a sentence have been jumbled up, and labeled P, Q, R and S. Select the option that gives the correct sequence in which these parts can be rearranged to form a meaningful and grammatically correct sentence.

P: that places greater stress

Q: and genuine responsibility

R: on moral sensitivity, ethical uprightness

S: politics is an area of human endeavour

Options :

1. ✗ RPQS

2. ✓ SPRQ

3. ✗ SQRP

4. ✗ SRPQ

General English2

Group Number :	8
Group Id :	5459271608
Group Maximum Duration :	0
Group Minimum Duration :	0
Show Attended Group? :	No
Edit Attended Group? :	No
Break time:	0
Group Marks:	20
Is this Group for Examiner?:	No

Revisit allowed for group Instructions? :	Yes
Maximum Instruction Time:	0
Minimum Instruction Time:	0

General English2

Section Id :	5459271608
Section Number :	1
Section type :	Online
Mandatory or Optional:	Mandatory
Number of Questions:	16
Number of Questions to be attempted:	16
Section Marks:	20

Sub-Section Number:	1
Sub-Section Id:	5459271928
Question Shuffling Allowed :	Yes

Question Number : 141 Question Id : 54592732461 Question Type : MCQ Option Shuffling : Yes
Correct Marks : 1 Wrong Marks : 0.25

The sentences of a paragraph have been jumbled up, and labeled P, Q, R and S. Select the option that gives the correct sequence in which these sentences should be rearranged to form a meaningful paragraph.

P: Finally, grandmother suggested that we could spend our afternoons in the barns.

Q: But they also wanted us out of the house because they were afraid of us overhearing their gossips.

R: All the children sat together to discuss what we could do to pass our time during holidays.

S: The womenfolk—my mother, grandmother and aunts—wanted us safe and away from the crocodile-infested lake.

Options :

1. ✖ RQPS

2. ✔ RSQP

3. ✖ SRPQ

4. ✖ PQSR

Question Number : 141 Question Id : 54592732461 Question Type : MCQ Option Shuffling : Yes
Correct Marks : 1 Wrong Marks : 0.25

The sentences of a paragraph have been jumbled up, and labeled P, Q, R and S. Select the option that gives the correct sequence in which these sentences should be rearranged to form a meaningful paragraph.

P: Finally, grandmother suggested that we could spend our afternoons in the barns.

Q: But they also wanted us out of the house because they were afraid of us overhearing their gossips.

R: All the children sat together to discuss what we could do to pass our time during holidays.

S: The womenfolk—my mother, grandmother and aunts—wanted us safe and away from the crocodile-infested lake.

Options :

1. ✖ RQPS

2. ✔ RSQP

3. ✖ SRPQ

4. ✖ PQSR

Question Number : 142 Question Id : 54592732462 Question Type : MCQ Option Shuffling : Yes
Correct Marks : 1 Wrong Marks : 0.25

Select the word that is closest in meaning (SYNONYM) to the word given below.

PROFOUND

Options :

1. ✓ Deep
2. ✗ Pursuit
3. ✗ Predicament
4. ✗ Fickle

Question Number : 142 Question Id : 54592732462 Question Type : MCQ Option Shuffling : Yes
Correct Marks : 1 Wrong Marks : 0.25

Select the word that is closest in meaning (SYNONYM) to the word given below.

PROFOUND

Options :

1. ✓ Deep
2. ✗ Pursuit
3. ✗ Predicament
4. ✗ Fickle

Question Number : 143 Question Id : 54592732463 Question Type : MCQ Option Shuffling : Yes
Correct Marks : 1 Wrong Marks : 0.25

Select the word that is closest in meaning (SYNONYM) to the word given below.

MACABRE

Options :

1. ✗ Jovial

2. ✖ Austere

3. ✖ Alluring

4. ✔ Ghastly

Question Number : 143 Question Id : 54592732463 Question Type : MCQ Option Shuffling : Yes
Correct Marks : 1 Wrong Marks : 0.25

Select the word that is closest in meaning (SYNONYM) to the word given below.

MACABRE

Options :

1. ✖ Jovial

2. ✖ Austere

3. ✖ Alluring

4. ✔ Ghastly

Question Number : 144 Question Id : 54592732464 Question Type : MCQ Option Shuffling : Yes
Correct Marks : 1 Wrong Marks : 0.25

Select the word that is opposite in meaning (ANTONYM) to the word given below.

INDUSTRIOUS

Options :

1. ✖ Feudal

2. ✔ Indolent

3. ✖ Persistent

4. ✖ Diligent

Question Number : 144 Question Id : 54592732464 Question Type : MCQ Option Shuffling : Yes
Correct Marks : 1 Wrong Marks : 0.25

Select the word that is opposite in meaning (ANTONYM) to the word given below.

INDUSTRIOUS

Options :

1. ✘ Feudal
2. ✔ Indolent
3. ✘ Persistent
4. ✘ Diligent

Question Number : 145 Question Id : 54592732465 Question Type : MCQ Option Shuffling : Yes
Correct Marks : 1 Wrong Marks : 0.25

Select the word that is opposite in meaning (ANTONYM) to the word given below.

SUBJUGATION

Options :

1. ✘ Opulence
2. ✘ Contraindication
3. ✔ Independence
4. ✘ Abomination

Question Number : 145 Question Id : 54592732465 Question Type : MCQ Option Shuffling : Yes
Correct Marks : 1 Wrong Marks : 0.25

Select the word that is opposite in meaning (ANTONYM) to the word given below.

SUBJUGATION

Options :

1. ✖ Opulence
2. ✖ Contraindication
3. ✔ Independence
4. ✖ Abomination

Question Number : 146 Question Id : 54592732466 Question Type : MCQ Option Shuffling : Yes
Correct Marks : 1 Wrong Marks : 0.25

Select the correct word (HOMONYM) that fills in the blank and makes the sentence meaningful.

The police was found to be in _____ with criminals

Options :

1. ✖ coalition
2. ✖ collision
3. ✖ collegium
4. ✔ collusion

Question Number : 146 Question Id : 54592732466 Question Type : MCQ Option Shuffling : Yes
Correct Marks : 1 Wrong Marks : 0.25

Select the correct word (HOMONYM) that fills in the blank and makes the sentence meaningful.

The police was found to be in _____ with criminals

Options :

1. ✖ coalition
2. ✖ collision
3. ✖ collegium
4. ✔ collusion

Question Number : 147 Question Id : 54592732467 Question Type : MCQ Option Shuffling : Yes
Correct Marks : 1 Wrong Marks : 0.25

Select the word that is spelled correctly.

Options :

1. ✖ Univercity
2. ✖ Univarsity
3. ✖ Unnivercity
4. ✔ University

Question Number : 147 Question Id : 54592732467 Question Type : MCQ Option Shuffling : Yes
Correct Marks : 1 Wrong Marks : 0.25

Select the word that is spelled correctly.

Options :

1. ✖ Univercity
2. ✖ Univarsity
3. ✖ Unnivercity
4. ✔ University

Question Number : 148 Question Id : 54592732468 Question Type : MCQ Option Shuffling : Yes
Correct Marks : 1 Wrong Marks : 0.25

Select the word that is spelled correctly.

Options :

1. ✖ Madiocer
2. ✖ Medeocer
3. ✖ Medeocre
4. ✔ Mediocre

Question Number : 148 Question Id : 54592732468 Question Type : MCQ Option Shuffling : Yes
Correct Marks : 1 Wrong Marks : 0.25

Select the word that is spelled correctly.

Options :

1. ✖ Madiocer
2. ✖ Medeocer
3. ✖ Medeocre
4. ✔ Mediocre

Question Number : 149 Question Id : 54592732469 Question Type : MCQ Option Shuffling : Yes
Correct Marks : 1 Wrong Marks : 0.25

Select the word that is spelled correctly.

Options :

1. ✖ Governatorial
2. ✔ Gubernatorial
3. ✖ Guvernatorial
4. ✖ Gobernotarial

Question Number : 149 Question Id : 54592732469 Question Type : MCQ Option Shuffling : Yes
Correct Marks : 1 Wrong Marks : 0.25

Select the word that is spelled correctly.

Options :

1. ✖ Governatorial
2. ✔ Gubernatorial
3. ✖ Guvernatorial
4. ✖ Gobernotarial

Question Number : 150 Question Id : 54592732470 Question Type : MCQ Option Shuffling : Yes
Correct Marks : 1 Wrong Marks : 0.25

Select the option that best expresses the meaning of the idiom or phrase given below.

To blow one's own trumpet

Options :

1. ✖ to call forth with loud applause
2. ✔ to praise oneself
3. ✖ to cause loss to oneself voluntarily
4. ✖ to make money very quickly

Question Number : 150 Question Id : 54592732470 Question Type : MCQ Option Shuffling : Yes
Correct Marks : 1 Wrong Marks : 0.25

Select the option that best expresses the meaning of the idiom or phrase given below.

To blow one's own trumpet

Options :

1. ✖ to call forth with loud applause
2. ✔ to praise oneself
3. ✖ to cause loss to oneself voluntarily
4. ✖ to make money very quickly

Question Number : 151 Question Id : 54592732471 Question Type : MCQ Option Shuffling : Yes
Correct Marks : 1 Wrong Marks : 0.25

Select the option that best expresses the meaning of the idiom or phrase given below.

To kick up a row

Options :

1. ✔ To make great noise
2. ✖ To take revenge on someone
3. ✖ To squander one's wealth foolishly
4. ✖ To fiddle or meddle with something

Question Number : 151 Question Id : 54592732471 Question Type : MCQ Option Shuffling : Yes

Correct Marks : 1 Wrong Marks : 0.25

Select the option that best expresses the meaning of the idiom or phrase given below.

To kick up a row

Options :

1. ✓ To make great noise
2. ✗ To take revenge on someone
3. ✗ To squander one's wealth foolishly
4. ✗ To fiddle or meddle with something

Question Number : 152 Question Id : 54592732472 Question Type : MCQ Option Shuffling : Yes

Correct Marks : 1 Wrong Marks : 0.25

Select the option that best expresses the meaning of the idiom or phrase given below.

To keep (someone) at arm's length

Options :

1. ✗ To quarrel with someone
2. ✗ To engage oneself in many tasks at the same time
3. ✗ To keep or hold someone very close to oneself
4. ✓ To avoid being close, friendly or intimate with someone

Question Number : 152 Question Id : 54592732472 Question Type : MCQ Option Shuffling : Yes

Correct Marks : 1 Wrong Marks : 0.25

Select the option that best expresses the meaning of the idiom or phrase given below.

To keep (someone) at arm's length

Options :

1. ✖ To quarrel with someone
2. ✖ To engage oneself in many tasks at the same time
3. ✖ To keep or hold someone very close to oneself
4. ✔ To avoid being close, friendly or intimate with someone

Question Number : 153 Question Id : 54592732473 Question Type : MCQ Option Shuffling : Yes

Correct Marks : 1 Wrong Marks : 0.25

Select the most appropriate 'one word ' for the expressions given below.

Rule by members of a small privileged class

Options :

1. ✔ Aristocracy
2. ✖ Theocracy
3. ✖ Mobocracy
4. ✖ Gerontocracy

Question Number : 153 Question Id : 54592732473 Question Type : MCQ Option Shuffling : Yes

Correct Marks : 1 Wrong Marks : 0.25

Select the most appropriate 'one word ' for the expressions given below.

Rule by members of a small privileged class

Options :

1. ✔ Aristocracy
2. ✖ Theocracy
3. ✖ Mobocracy

4. ✖ Gerontocracy

Question Number : 154 Question Id : 54592732474 Question Type : MCQ Option Shuffling : Yes
Correct Marks : 1 Wrong Marks : 0.25

Select the most appropriate 'one word ' for the expressions given below.

A person who studies birds

Options :

1. ✖ Etiology
2. ✖ Entomologist
3. ✖ Etymologist
4. ✔ Ornithologist

Question Number : 154 Question Id : 54592732474 Question Type : MCQ Option Shuffling : Yes
Correct Marks : 1 Wrong Marks : 0.25

Select the most appropriate 'one word ' for the expressions given below.

A person who studies birds

Options :

1. ✖ Etiology
2. ✖ Entomologist
3. ✖ Etymologist
4. ✔ Ornithologist

Question Number : 155 Question Id : 54592732475 Question Type : MCQ Option Shuffling : Yes
Correct Marks : 1 Wrong Marks : 0.25

Select the most appropriate 'one word ' for the expressions given below.

A person having excessive craving for alcohol

Options :

1. ✖ Druggist
2. ✖ Reticent
3. ✔ Dipsomaniac
4. ✖ Adolescent

Question Number : 155 Question Id : 54592732475 Question Type : MCQ Option Shuffling : Yes
Correct Marks : 1 Wrong Marks : 0.25

Select the most appropriate 'one word ' for the expressions given below.

A person having excessive craving for alcohol

Options :

1. ✖ Druggist
2. ✖ Reticent
3. ✔ Dipsomaniac
4. ✖ Adolescent

Sub-Section Number:	2
Sub-Section Id:	5459271929
Question Shuffling Allowed :	Yes

Question Id : 54592732476 Question Type : COMPREHENSION Sub Question Shuffling Allowed : Yes Group Comprehension Questions : No

Question Numbers : (156 to 160)

Question Label : Comprehension

Read the passage below and answer the questions that follow.

At a young age of 22 years, a Rhodes Scholar at Oxford University wrote an epic play, Yayati, which earned him international accolades in the years to come. The boy was Girish Karnad, who was born in a Konkani-speaking family in Maharashtra but chose to write primarily in Kannada. The success of his play initiated a journey that saw him pen critically acclaimed plays, including Hayavadana. Karnad made his acting as well as screenwriting debut in a Kannada movie, Samskara, which won the first President's Golden Lotus Award for Kannada cinema. Karnad made his directorial debut with Vamsha Vriksha, which won him the National Film Award for Best Direction along with B. V. Karanth, who co-directed the film.

Karnad, who could speak and read six Indian languages, was not only a polyglot but a multi-faceted personality who knew everything about all Indian arts, be it music, literature or dance, irrespective of the region, North or South, or the form, classical or contemporary. He served as director of the Film and Television Institute of India, the chairman of the Sangeet Natak Akademi, and the head of the Nehru Centre in London. Girish Karnad was an intellectual giant whose knowledge of, and contribution to, art, cinema and literature remains unmatched. He was also a fearless social voice who stood up for what he believed in.

Sub questions

Question Number : 156 Question Id : 54592732477 Question Type : MCQ Option Shuffling : Yes

Correct Marks : 1 Wrong Marks : 0.25

Through which movie did Girish Karnad make his debut as an actor?

Options :

1. ✖ Hayadavana
2. ✔ Samskara
3. ✖ Yayati
4. ✖ Utsav

Question Number : 157 Question Id : 54592732478 Question Type : MCQ Option Shuffling : Yes

Correct Marks : 1 Wrong Marks : 0.25

Through which movie did Girish Karnad make his debut as a director?

Options :

1. ✖ Kaadu
2. ✖ Godhuli
3. ✖ Cheluvi
4. ✔ Vamsha Vriksha

Question Number : 158 Question Id : 54592732479 Question Type : MCQ Option Shuffling : Yes

Correct Marks : 1 Wrong Marks : 0.25

What is the meaning of the word 'polyglot' as used in the passage?

Options :

1. ✔ A person who knows many languages
2. ✖ A person who dabbles in many art forms
3. ✖ A person who knows a lot about music, dance and literature
4. ✖ A person who is an expert on different regional cultures within a country

Question Number : 159 Question Id : 54592732480 Question Type : MCQ Option Shuffling : Yes

Correct Marks : 1 Wrong Marks : 0.25

Select the word from the passage that means the same as 'praise'.

Options :

1. ✖ Success
2. ✖ Peerless
3. ✔ Accolade
4. ✖ Scholar

Question Number : 160 Question Id : 54592732481 Question Type : MCQ Option Shuffling : Yes

Correct Marks : 1 Wrong Marks : 0.25

Select the pair of institution and position held by Karnad that is NOT mentioned in the passage.

Options :

1. ✖ Director – Film and Television Institute of India
2. ✖ Chairman – Sangeet Natak Akademi
3. ✖ Head – Nehru Centre, London
4. ✔ President – Oxford Union Society

Question Id : 54592732476 Question Type : COMPREHENSION Sub Question Shuffling Allowed : Yes Group Comprehension Questions : No

Question Numbers : (156 to 160)

Question Label : Comprehension

Read the passage below and answer the questions that follow.

At a young age of 22 years a Rhodes Scholar at Oxford University wrote an epic play, Yayati, which earned him international accolades in the years to come. The boy was Girish Karnad, who was born in a Konkani-speaking family in Maharashtra but chose to write primarily in Kannada. The success of his play initiated a journey that saw him pen critically acclaimed plays, including Hayavadana. Karnad made his acting as well as screenwriting debut in a Kannada movie, Samskara, which won the first President's Golden Lotus Award for Kannada cinema. Karnad made his directorial debut with Vamsha Vriksha, which won him the National Film Award for Best Direction along with B. V. Karanth, who co-directed the film.

Karnad, who could speak and read six Indian languages, was not only a polyglot but a multi-faceted personality who knew everything about all Indian arts, be it music, literature or dance, irrespective of the region, North or South, or the form, classical or contemporary. He served as director of the Film and Television Institute of India, the chairman of the Sangeet Natak Akademi, and the head of the Nehru Centre in London.

Girish Karnad was an intellectual giant whose knowledge of, and contribution to, art, cinema and literature remains unmatched. He was also a fearless social voice who stood up for what he believed in.

Sub questions

Question Number : 156 Question Id : 54592732477 Question Type : MCQ Option Shuffling : Yes
Correct Marks : 1 Wrong Marks : 0.25

Through which movie did Girish Karnad make his debut as an actor?

Options :

1. ✘ Hayadavana
2. ✔ Samskara
3. ✘ Yayati
4. ✘ Utsav

Question Number : 157 Question Id : 54592732478 Question Type : MCQ Option Shuffling : Yes
Correct Marks : 1 Wrong Marks : 0.25

Through which movie did Girish Karnad make his debut as a director?

Options :

1. ✘ Kaadu
2. ✘ Godhuli
3. ✘ Cheluvi
4. ✔ Vamsha Vriksha

Question Number : 158 Question Id : 54592732479 Question Type : MCQ Option Shuffling : Yes
Correct Marks : 1 Wrong Marks : 0.25

What is the meaning of the word 'polyglot' as used in the passage?

Options :

1. ✔ A person who knows many languages
2. ✘ A person who dabbles in many art forms

3. ✖ A person who knows a lot about music, dance and literature

4. ✖ A person who is an expert on different regional cultures within a country

Question Number : 159 Question Id : 54592732480 Question Type : MCQ Option Shuffling : Yes
Correct Marks : 1 Wrong Marks : 0.25

Select the word from the passage that means the same as 'praise'.

Options :

1. ✖ Success

2. ✖ Peerless

3. ✔ Accolade

4. ✖ Scholar

Question Number : 160 Question Id : 54592732481 Question Type : MCQ Option Shuffling : Yes
Correct Marks : 1 Wrong Marks : 0.25

Select the pair of institution and position held by Karnad that is NOT mentioned in the passage.

Options :

1. ✖ Director - Film and Television Institute of India

2. ✖ Chairman - Sangeet Natak Akademi

3. ✖ Head - Nehru Centre, London

4. ✔ President - Oxford Union Society

General Hindi1

Group Maximum Duration :	0
Group Minimum Duration :	0
Show Attended Group? :	No
Edit Attended Group? :	No
Break time:	0
Group Marks:	20
Is this Group for Examiner?:	No
Revisit allowed for group Instructions? :	Yes
Maximum Instruction Time:	0
Minimum Instruction Time:	0

General Hindi1

Section Id :	5459271609
Section Number :	1
Section type :	Online
Mandatory or Optional:	Mandatory
Number of Questions:	20
Number of Questions to be attempted:	20
Section Marks:	20

Sub-Section Number:	1
Sub-Section Id:	5459271930
Question Shuffling Allowed :	Yes

Question Number : 161 Question Id : 54592732482 Question Type : MCQ Option Shuffling : Yes
Correct Marks : 1 Wrong Marks : 0.25

निम्नलिखित प्रश्न में, चार विकल्पों में से, उस विकल्प का चयन करें जो दिए गए सही संधि विच्छेद की संधि का सही विकल्प है।

उदय + अंचल

Options :

1. ✓ उदयांचल
2. ✗ उदायांचल
3. ✗ उदयंचल
4. ✗ उदआंचल

Question Number : 161 Question Id : 54592732482 Question Type : MCQ Option Shuffling : Yes
Correct Marks : 1 Wrong Marks : 0.25

निम्नलिखित प्रश्न में, चार विकल्पों में से, उस विकल्प का चयन करें जो दिए गए सही संधि विच्छेद की संधि का सही विकल्प है।

उदय + अंचल

Options :

1. ✓ उदयांचल
2. ✗ उदायांचल
3. ✗ उदयंचल
4. ✗ उदआंचल

Question Number : 162 Question Id : 54592732483 Question Type : MCQ Option Shuffling : Yes

Correct Marks : 1 Wrong Marks : 0.25

निम्नलिखित प्रश्न में, चार विकल्पों में से, उस विकल्प का चयन करें जो उपसर्ग से बने शब्द का सही विकल्प है।

Options :

1. ✗ बिकाऊ
2. ✗ खिलाड़ी
3. ✓ अधजला
4. ✗ कसौटी

Question Number : 162 Question Id : 54592732483 Question Type : MCQ Option Shuffling : Yes

Correct Marks : 1 Wrong Marks : 0.25

निम्नलिखित प्रश्न में, चार विकल्पों में से, उस विकल्प का चयन करें जो उपसर्ग से बने शब्द का सही विकल्प है।

Options :

1. ✗ बिकाऊ
2. ✗ खिलाड़ी
3. ✓ अधजला
4. ✗ कसौटी

Question Number : 163 Question Id : 54592732484 Question Type : MCQ Option Shuffling : Yes

Correct Marks : 1 Wrong Marks : 0.25

निम्नलिखित प्रश्न में, चार विकल्पों में से, उस विकल्प का चयन करें जो अर्धतत्सम शब्द का सही विकल्प है।

Options :

1. * अग्नि
2. * आग
3. ✓ अगिन
4. * अग्निकर्म

Question Number : 163 Question Id : 54592732484 Question Type : MCQ Option Shuffling : Yes

Correct Marks : 1 Wrong Marks : 0.25

निम्नलिखित प्रश्न में, चार विकल्पों में से, उस विकल्प का चयन करें जो अर्धतत्सम शब्द का सही विकल्प है।

Options :

1. * अग्नि
2. * आग
3. ✓ अगिन
4. * अग्निकर्म

Question Number : 164 Question Id : 54592732485 Question Type : MCQ Option Shuffling : Yes

Correct Marks : 1 Wrong Marks : 0.25

निम्नलिखित प्रश्न में, चार विकल्पों में से, उस विकल्प का चयन करें जो विदेशी शब्द का सही विकल्प नहीं है।

Options :

1. * दीदार
2. * इशारा
3. * इलाज
4. ✓ हल्दी

Question Number : 164 Question Id : 54592732485 Question Type : MCQ Option Shuffling : Yes

Correct Marks : 1 Wrong Marks : 0.25

निम्नलिखित प्रश्न में, चार विकल्पों में से, उस विकल्प का चयन करें जो विदेशी शब्द का सही विकल्प नहीं है।

Options :

1. * दीदार
2. * इशारा
3. * इलाज
4. ✓ हल्दी

Question Number : 165 Question Id : 54592732486 Question Type : MCQ Option Shuffling : Yes
Correct Marks : 1 Wrong Marks : 0.25

निम्नलिखित प्रश्न में, चार विकल्पों में से, उस विकल्प का चयन करें जो विशेषण के भेद वाला विकल्प है।

चाय में बहुत ज्यादा चीनी डाली गई है।

Options :

1. * अनिश्चित संख्यावाचक
2. ✓ अनिश्चित परिमाणवाचक
3. * गुणवाचक
4. * संख्यावाचक

Question Number : 165 Question Id : 54592732486 Question Type : MCQ Option Shuffling : Yes
Correct Marks : 1 Wrong Marks : 0.25

निम्नलिखित प्रश्न में, चार विकल्पों में से, उस विकल्प का चयन करें जो विशेषण के भेद वाला विकल्प है।

चाय में बहुत ज्यादा चीनी डाली गई है।

Options :

1. * अनिश्चित संख्यावाचक
2. ✓ अनिश्चित परिमाणवाचक

3. * गुणवाचक

4. * संख्यावाचक

Question Number : 166 Question Id : 54592732487 Question Type : MCQ Option Shuffling : Yes

Correct Marks : 1 Wrong Marks : 0.25

निम्नलिखित प्रश्न में, चार विकल्पों में से, उस विकल्प का चयन करें जो दिए गए शब्द के पर्यायवाची शब्द का विकल्प नहीं है।

बुद्धि -

Options :

1. * प्रज्ञा

2. ✓ अब्द

3. * मति

4. * मेधा

Question Number : 166 Question Id : 54592732487 Question Type : MCQ Option Shuffling : Yes

Correct Marks : 1 Wrong Marks : 0.25

निम्नलिखित प्रश्न में, चार विकल्पों में से, उस विकल्प का चयन करें जो दिए गए शब्द के पर्यायवाची शब्द का विकल्प नहीं है।

बुद्धि -

Options :

1. * प्रज्ञा

2. ✓ अब्द

3. * मति

4. * मेधा

Question Number : 167 Question Id : 54592732488 Question Type : MCQ Option Shuffling : Yes

Correct Marks : 1 Wrong Marks : 0.25

निम्नलिखित प्रश्न में, चार विकल्पों में से, उस विकल्प का चयन करें जो दिए गए शब्द के विलोम शब्द का सही विकल्प है।

आडम्बर -

Options :

1. * दिखावा
2. ✓ सादगी
3. * पहनावा
4. * रूप

Question Number : 167 Question Id : 54592732488 Question Type : MCQ Option Shuffling : Yes

Correct Marks : 1 Wrong Marks : 0.25

निम्नलिखित प्रश्न में, चार विकल्पों में से, उस विकल्प का चयन करें जो दिए गए शब्द के विलोम शब्द का सही विकल्प है।

आडम्बर -

Options :

1. * दिखावा
2. ✓ सादगी
3. * पहनावा
4. * रूप

Question Number : 168 Question Id : 54592732489 Question Type : MCQ Option Shuffling : Yes

Correct Marks : 1 Wrong Marks : 0.25

निम्नलिखित प्रश्न में, चार विकल्पों में से, उस सही विकल्प का चयन करें जो रिक्त स्थान के लिए उचित शब्द-युग्म का विकल्प है।

आज-कल जहाँ भी देखे सड़कों पर हर जगह सिर्फ _____ ही फैला हुआ है।

Options :

1. * शुभ-अशुभ

2. * टाल-मटोल

3. * मार-धाड़

4. ✓ कूड़ा-करकट

Question Number : 168 Question Id : 54592732489 Question Type : MCQ Option Shuffling : Yes

Correct Marks : 1 Wrong Marks : 0.25

निम्नलिखित प्रश्न में, चार विकल्पों में से, उस सही विकल्प का चयन करें जो रिक्त स्थान के लिए उचित शब्द-युग्म का विकल्प है।

आज-कल जहाँ भी देखे सड़कों पर हर जगह सिर्फ _____ ही फैला हुआ है।

Options :

1. * शुभ-अशुभ

2. * टाल-मटोल

3. * मार-धाड़

4. ✓ कूड़ा-करकट

Question Number : 169 Question Id : 54592732490 Question Type : MCQ Option Shuffling : Yes

Correct Marks : 1 Wrong Marks : 0.25

निम्नलिखित प्रश्न में, चार विकल्पों में से, उस विकल्प का चयन करें जो दिए गए वाक्यांश के लिए एक शब्द का सही विकल्प है।

व्यापक या सामान्य नियम से विरुद्ध बात:

Options :

1. * आलोचना

2. * अन्यन्य

3. * उपकृत

4. ✓ अपवाद

Question Number : 169 Question Id : 54592732490 Question Type : MCQ Option Shuffling : Yes

Correct Marks : 1 Wrong Marks : 0.25

निम्नलिखित प्रश्न में, चार विकल्पों में से, उस विकल्प का चयन करें जो दिए गए वाक्यांश के लिए एक शब्द का सही विकल्प है।

व्यापक या सामान्य नियम से विरुद्ध बात:

Options :

1. * आलोचना
2. * अन्यन्य
3. * उपकृत
4. ✓ अपवाद

Question Number : 170 Question Id : 54592732491 Question Type : MCQ Option Shuffling : Yes

Correct Marks : 1 Wrong Marks : 0.25

निम्नलिखित प्रश्न में, चार विकल्पों में से, उस सही विकल्प का चयन करें जो रिक्त स्थान के लिए उचित विकल्प है।

फूलों की _____ चारों ओर फैल गई।

Options :

1. * दुर्गन्ध
2. * सौगंध
3. ✓ सुगंध
4. * सूगंध

Question Number : 170 Question Id : 54592732491 Question Type : MCQ Option Shuffling : Yes

Correct Marks : 1 Wrong Marks : 0.25

निम्नलिखित प्रश्न में, चार विकल्पों में से, उस सही विकल्प का चयन करें जो रिक्त स्थान के लिए उचित विकल्प है।

फूलों की _____ चारों ओर फैल गई।

Options :

1. * दुर्गन्ध
2. * सौगंध
3. ✓ सुगंध
4. * सूगंध

Question Number : 171 Question Id : 54592732492 Question Type : MCQ Option Shuffling : Yes
Correct Marks : 1 Wrong Marks : 0.25

निम्नलिखित प्रश्न में, चार विकल्पों में से, उस विकल्प का चयन करें जो दिए गए शब्द के समानार्थी शब्द का विकल्प नहीं है।

तोता -

Options :

1. * सुआ
2. * शुक
3. ✓ कृश
4. * कीर

Question Number : 171 Question Id : 54592732492 Question Type : MCQ Option Shuffling : Yes
Correct Marks : 1 Wrong Marks : 0.25

निम्नलिखित प्रश्न में, चार विकल्पों में से, उस विकल्प का चयन करें जो दिए गए शब्द के समानार्थी शब्द का विकल्प नहीं है।

तोता -

Options :

1. * सुआ
2. * शुक
3. ✓ कृश
4. * कीर

Question Number : 172 Question Id : 54592732493 Question Type : MCQ Option Shuffling : Yes
Correct Marks : 1 Wrong Marks : 0.25

निम्नलिखित प्रश्न में, चार विकल्पों में से, उस विकल्प का चयन करें जो रिक्त स्थान के लिए उपयुक्त शब्द का सही विकल्प नहीं है।

भाषा शुद्ध तभी होती है, जब _____ का प्रयोग किया जाता है।

Options :

1. * अशुद्ध वाक्यों
2. ✓ शुद्ध वाक्यों
3. * मनचाहे वाक्यों
4. * अनुपयुक्त शब्दों

Question Number : 172 Question Id : 54592732493 Question Type : MCQ Option Shuffling : Yes
Correct Marks : 1 Wrong Marks : 0.25

निम्नलिखित प्रश्न में, चार विकल्पों में से, उस विकल्प का चयन करें जो रिक्त स्थान के लिए उपयुक्त शब्द का सही विकल्प नहीं है।

भाषा शुद्ध तभी होती है, जब _____ का प्रयोग किया जाता है।

Options :

1. * अशुद्ध वाक्यों
2. ✓ शुद्ध वाक्यों
3. * मनचाहे वाक्यों
4. * अनुपयुक्त शब्दों

Question Number : 173 Question Id : 54592732494 Question Type : MCQ Option Shuffling : Yes
Correct Marks : 1 Wrong Marks : 0.25

निम्नलिखित प्रश्न में, चार विकल्पों में से, उस विकल्प का चयन करें जो शुद्ध शब्द का सही विकल्प है।

Options :

1. * सथानातरित
2. * स्थानांतरित

3. ✓ स्थानान्तरित

4. * स्थानान्तरित

Question Number : 173 Question Id : 54592732494 Question Type : MCQ Option Shuffling : Yes
Correct Marks : 1 Wrong Marks : 0.25

निम्नलिखित प्रश्न में, चार विकल्पों में से, उस विकल्प का चयन करें जो शुद्ध शब्द का सही विकल्प है।

Options :

1. * सथानातरित

2. * स्थानान्तरित

3. ✓ स्थानान्तरित

4. * स्थानान्तरित

Question Number : 174 Question Id : 54592732495 Question Type : MCQ Option Shuffling : Yes
Correct Marks : 1 Wrong Marks : 0.25

निम्नलिखित प्रश्न में, चार विकल्पों में से, उस विकल्प का चयन करें जो शुद्ध शब्द का सही विकल्प है।

Options :

1. * अज्ञाकारिणी

2. ✓ आज्ञाकारिणी

3. * अग्याकारीनी

4. * आग्याकारीनी

Question Number : 174 Question Id : 54592732495 Question Type : MCQ Option Shuffling : Yes
Correct Marks : 1 Wrong Marks : 0.25

निम्नलिखित प्रश्न में, चार विकल्पों में से, उस विकल्प का चयन करें जो शुद्ध शब्द का सही विकल्प है।

Options :

1. * अज्ञाकारिणी

2. ✓ आज्ञाकारिणी

3. * अग्याकारीनी

4. * आग्याकरीन्नी

Question Number : 175 Question Id : 54592732496 Question Type : MCQ Option Shuffling : Yes

Correct Marks : 1 Wrong Marks : 0.25

निम्नलिखित प्रश्न में, चार विकल्पों में से, उस विकल्प का चयन करें जो शुद्ध शब्द का सही विकल्प है।

Options :

1. ✓ गद्यांश

2. * गदयंश

3. * गदयांस

4. * गदायंश

Question Number : 175 Question Id : 54592732496 Question Type : MCQ Option Shuffling : Yes

Correct Marks : 1 Wrong Marks : 0.25

निम्नलिखित प्रश्न में, चार विकल्पों में से, उस विकल्प का चयन करें जो शुद्ध शब्द का सही विकल्प है।

Options :

1. ✓ गद्यांश

2. * गदयंश

3. * गदयांस

4. * गदायंश

Question Number : 176 Question Id : 54592732497 Question Type : MCQ Option Shuffling : Yes

Correct Marks : 1 Wrong Marks : 0.25

निम्नलिखित प्रश्न में, चार विकल्पों में से, उस विकल्प का चयन करें जो सदा स्त्रीलिंग शब्द वाला सही विकल्प है।

Options :

1. * नींबू

2. * प्राण

3. ✓ धातु

4. * छाता

Question Number : 176 Question Id : 54592732497 Question Type : MCQ Option Shuffling : Yes
Correct Marks : 1 Wrong Marks : 0.25

निम्नलिखित प्रश्न में, चार विकल्पों में से, उस विकल्प का चयन करें जो सदा स्त्रीलिंग शब्द वाला सही विकल्प है।

Options :

1. * नींबू
2. * प्राण
3. ✓ धातु
4. * छाता

Question Number : 177 Question Id : 54592732498 Question Type : MCQ Option Shuffling : Yes
Correct Marks : 1 Wrong Marks : 0.25

निम्नलिखित प्रश्न में, चार विकल्पों में से, उस विकल्प का चयन करें जो दिए गए शब्द का सही स्त्रीलिंग वाला शब्द है।

वीर

Options :

1. * विरमति
2. ✓ वीरांगना
3. * वीरवान
4. * वीरनी

Question Number : 177 Question Id : 54592732498 Question Type : MCQ Option Shuffling : Yes
Correct Marks : 1 Wrong Marks : 0.25

निम्नलिखित प्रश्न में, चार विकल्पों में से, उस विकल्प का चयन करें जो दिए गए शब्द का सही स्त्रीलिंग वाला शब्द है।

वीर

Options :

1. ✖ विरमति
2. ✔ वीरांगना
3. ✖ वीरवान
4. ✖ वीरनी

Question Number : 178 Question Id : 54592732499 Question Type : MCQ Option Shuffling : Yes
Correct Marks : 1 Wrong Marks : 0.25

निम्नलिखित प्रश्न में, चार विकल्पों में से, उस विकल्प का चयन करें जो दिए गए शब्द के लिए बहुवचन शब्द का सबसे अच्छा विकल्प है।

विधि

Options :

1. ✖ विधिओ
2. ✔ विधियाँ
3. ✖ वीधियो
4. ✖ विधि

Question Number : 178 Question Id : 54592732499 Question Type : MCQ Option Shuffling : Yes
Correct Marks : 1 Wrong Marks : 0.25

निम्नलिखित प्रश्न में, चार विकल्पों में से, उस विकल्प का चयन करें जो दिए गए शब्द के लिए बहुवचन शब्द का सबसे अच्छा विकल्प है।

विधि

Options :

1. ✖ विधिओ
2. ✔ विधियाँ
3. ✖ वीधियो
4. ✖ विधि

Question Number : 179 Question Id : 54592732500 Question Type : MCQ Option Shuffling : Yes

Correct Marks : 1 Wrong Marks : 0.25

निम्नलिखित प्रश्न में, चार विकल्पों में से, उस विकल्प का चयन करें जो कोष्ठक में दिए गए शब्द के अनुसार उत्तम पुरुष वाचक सर्वनाम का सबसे अच्छा विकल्प है।

Options :

1. ✓ (मैं) कभी-कभी मस्ती करता हूँ।
2. ✗ (तुम) क्या कर रहे हो?
3. ✗ (आप) कहाँ जा रहे हैं।
4. ✗ (यह) किताब मेरी है।

Question Number : 179 Question Id : 54592732500 Question Type : MCQ Option Shuffling : Yes

Correct Marks : 1 Wrong Marks : 0.25

निम्नलिखित प्रश्न में, चार विकल्पों में से, उस विकल्प का चयन करें जो कोष्ठक में दिए गए शब्द के अनुसार उत्तम पुरुष वाचक सर्वनाम का सबसे अच्छा विकल्प है।

Options :

1. ✓ (मैं) कभी-कभी मस्ती करता हूँ।
2. ✗ (तुम) क्या कर रहे हो?
3. ✗ (आप) कहाँ जा रहे हैं।
4. ✗ (यह) किताब मेरी है।

Question Number : 180 Question Id : 54592732501 Question Type : MCQ Option Shuffling : Yes

Correct Marks : 1 Wrong Marks : 0.25

निम्नलिखित प्रश्न में, चार विकल्पों में से, उस विकल्प का चयन करें जो दिए गए वाक्य के काल का सही विकल्प है।

माँ ने स्वादिष्ट खाना बनाया है।

Options :

1. ✓ आसन्न भूतकाल
2. ✗ संदिग्ध भूतकाल
3. ✗ अपूर्ण भूतकाल

4. * हेतुहेतु मद भूतकाल

Question Number : 180 Question Id : 54592732501 Question Type : MCQ Option Shuffling : Yes

Correct Marks : 1 Wrong Marks : 0.25

निम्नलिखित प्रश्न में, चार विकल्पों में से, उस विकल्प का चयन करें जो दिए गए वाक्य के काल का सही विकल्प है।

माँ ने स्वादिष्ट खाना बनाया है।

Options :

1. ✓ आसन्न भूतकाल
2. * संदिग्ध भूतकाल
3. * अपूर्ण भूतकाल
4. * हेतुहेतु मद भूतकाल

General Hindi2

Group Number :	10
Group Id :	5459271610
Group Maximum Duration :	0
Group Minimum Duration :	120
Show Attended Group? :	No
Edit Attended Group? :	No
Break time:	0
Group Marks:	20
Is this Group for Examiner?:	No
Revisit allowed for group Instructions? :	Yes
Maximum Instruction Time:	0
Minimum Instruction Time:	0

General Hindi2

Section Id :	5459271610
Section Number :	1
Section type :	Online
Mandatory or Optional:	Mandatory
Number of Questions:	16
Number of Questions to be attempted:	16
Section Marks:	20

Sub-Section Number: 1
Sub-Section Id: 5459271931
Question Shuffling Allowed : Yes

Question Number : 181 Question Id : 54592732502 Question Type : MCQ Option Shuffling : Yes
Correct Marks : 1 Wrong Marks : 0.25

निम्नलिखित प्रश्न में, चार विकल्पों में से, उस विकल्प का चयन करें जो दिए गए वाक्य के लिए वृत्ति के भेद का सबसे अच्छा विकल्प है।

अगर अच्छा भोजन मिल जाए तो मजा आ जाता।

Options :

1. * संभावनार्थ
2. * संदेहार्थ
3. ✓ संकेतार्थ
4. * विध्यर्थ

Question Number : 181 Question Id : 54592732502 Question Type : MCQ Option Shuffling : Yes
Correct Marks : 1 Wrong Marks : 0.25

निम्नलिखित प्रश्न में, चार विकल्पों में से, उस विकल्प का चयन करें जो दिए गए वाक्य के लिए वृत्ति के भेद का सबसे अच्छा विकल्प है।

अगर अच्छा भोजन मिल जाए तो मजा आ जाता।

Options :

1. * संभावनार्थ
2. * संदेहार्थ
3. ✓ संकेतार्थ
4. * विध्यर्थ

Question Number : 182 Question Id : 54592732503 Question Type : MCQ Option Shuffling : Yes
Correct Marks : 1 Wrong Marks : 0.25

निम्नलिखित प्रश्न में, चार विकल्पों में से, उस विकल्प का चयन करें जो दिए गए वाक्य के लिए पक्ष के भेद का सबसे अच्छा विकल्प है।

बालक अब चलने लगा है!

Options :

1. * सातप्यबोधक
2. * नित्यताद्योतक
3. * प्रगतिद्योतक
4. ✓ आरंभद्योतक

Question Number : 182 Question Id : 54592732503 Question Type : MCQ Option Shuffling : Yes

Correct Marks : 1 Wrong Marks : 0.25

निम्नलिखित प्रश्न में, चार विकल्पों में से, उस विकल्प का चयन करें जो दिए गए वाक्य के लिए पक्ष के भेद का सबसे अच्छा विकल्प है।

बालक अब चलने लगा है!

Options :

1. * सातप्यबोधक
2. * नित्यताद्योतक
3. * प्रगतिद्योतक
4. ✓ आरंभद्योतक

Question Number : 183 Question Id : 54592732504 Question Type : MCQ Option Shuffling : Yes

Correct Marks : 1 Wrong Marks : 0.25

निम्न विकल्पों में से निर्देशानुसार वाच्य परिवर्तन का विकल्प चुनिए।

मैंने पत्र लिखा (कर्मवाच्य)

Options :

1. * मुझसे लिखा नहीं जाता
2. * पत्र मैंने लिखा

3. ✓ मुझसे पत्र लिखा गया

4. ✘ मैंने लिखा पत्र

Question Number : 183 Question Id : 54592732504 Question Type : MCQ Option Shuffling : Yes

Correct Marks : 1 Wrong Marks : 0.25

निम्न विकल्पों में से निर्देशानुसार वाच्य परिवर्तन का विकल्प चुनिए।

मैंने पत्र लिखा (कर्मवाच्य)

Options :

1. ✘ मुझसे लिखा नहीं जाता

2. ✘ पत्र मैंने लिखा

3. ✓ मुझसे पत्र लिखा गया

4. ✘ मैंने लिखा पत्र

Question Number : 184 Question Id : 54592732505 Question Type : MCQ Option Shuffling : Yes

Correct Marks : 1 Wrong Marks : 0.25

निम्नलिखित प्रश्न में, चार विकल्पों में से, उस विकल्प का चयन करें जो सही वाक्य भेद का विकल्प है।

आने वाला पुरस्कार पाएगा।

Options :

1. ✘ मिश्र वाक्य

2. ✘ संयुक्त वाक्य

3. ✘ निषेधवाचक वाक्य

4. ✓ सरल वाक्य

Question Number : 184 Question Id : 54592732505 Question Type : MCQ Option Shuffling : Yes

Correct Marks : 1 Wrong Marks : 0.25

निम्नलिखित प्रश्न में, चार विकल्पों में से, उस विकल्प का चयन करें जो सही वाक्य भेद का विकल्प है।

आने वाला पुरस्कार पाएगा।

Options :

1. * मिश्र वाक्य
2. * संयुक्त वाक्य
3. * निषेधवाचक वाक्य
4. ✓ सरल वाक्य

Question Number : 185 Question Id : 54592732506 Question Type : MCQ Option Shuffling : Yes

Correct Marks : 1 Wrong Marks : 0.25

निम्नलिखित प्रश्न में, चार विकल्पों में से, उस विकल्प का चयन करें जो सही वाक्य भेद का विकल्प है।

जैसे ही काम समाप्त करो, वैसे ही सो जाओ।

Options :

1. * सरल वाक्य
2. * संयुक्त वाक्य
3. * निषेधवाचक वाक्य
4. ✓ मिश्र वाक्य

Question Number : 185 Question Id : 54592732506 Question Type : MCQ Option Shuffling : Yes

Correct Marks : 1 Wrong Marks : 0.25

निम्नलिखित प्रश्न में, चार विकल्पों में से, उस विकल्प का चयन करें जो सही वाक्य भेद का विकल्प है।

जैसे ही काम समाप्त करो, वैसे ही सो जाओ।

Options :

1. * सरल वाक्य
2. * संयुक्त वाक्य
3. * निषेधवाचक वाक्य
4. ✓ मिश्र वाक्य

Question Number : 186 Question Id : 54592732507 Question Type : MCQ Option Shuffling : Yes
Correct Marks : 1 Wrong Marks : 0.25

निम्नलिखित प्रश्न में, चार विकल्पों में से, उस विकल्प का चयन करें जो सही वाक्य भेद का विकल्प है।

जैसे ही हम दर्शनीय स्थल पर पहुँचे, वैसे ही घूमने निकल गए।

Options :

1. * सरल वाक्य
2. * संयुक्त वाक्य
3. * निषेधवाचक वाक्य
4. ✓ मिश्र वाक्य

Question Number : 186 Question Id : 54592732507 Question Type : MCQ Option Shuffling : Yes
Correct Marks : 1 Wrong Marks : 0.25

निम्नलिखित प्रश्न में, चार विकल्पों में से, उस विकल्प का चयन करें जो सही वाक्य भेद का विकल्प है।

जैसे ही हम दर्शनीय स्थल पर पहुँचे, वैसे ही घूमने निकल गए।

Options :

1. * सरल वाक्य
2. * संयुक्त वाक्य
3. * निषेधवाचक वाक्य
4. ✓ मिश्र वाक्य

Question Number : 187 Question Id : 54592732508 Question Type : MCQ Option Shuffling : Yes
Correct Marks : 1 Wrong Marks : 0.25

निम्नलिखित प्रश्न में, चार विकल्पों में से, उस विकल्प का चयन करें जो शुद्ध वाक्य का सबसे अच्छा विकल्प है।

Options :

1. * खरगोश को काटकर गाजर खिलाइए
2. ✓ खरगोश को गाजर काटकर खिलाइए
3. * गाजर खिलाइए काट कर खरगोश को
4. * खरगोश को खिलाइए गाजर काटकर

Question Number : 187 Question Id : 54592732508 Question Type : MCQ Option Shuffling : Yes
Correct Marks : 1 Wrong Marks : 0.25

निम्नलिखित प्रश्न में, चार विकल्पों में से, उस विकल्प का चयन करें जो शुद्ध वाक्य का सबसे अच्छा विकल्प है।

Options :

1. * खरगोश को काटकर गाजर खिलाइए
2. ✓ खरगोश को गाजर काटकर खिलाइए
3. * गाजर खिलाइए काट कर खरगोश को
4. * खरगोश को खिलाइए गाजर काटकर

Question Number : 188 Question Id : 54592732509 Question Type : MCQ Option Shuffling : Yes
Correct Marks : 1 Wrong Marks : 0.25

निम्नलिखित प्रश्न में, चार विकल्पों में से, उस विकल्प का चयन करें जो विराम चिह्न युक्त वाक्य का सही विकल्प है।

Options :

1. * गणतंत्र दिवस की परेड में बच्चे बूढ़े स्त्री पुरुष सभी एकत्रित हुए।
2. * गणतंत्र दिवस की परेड में - बच्चे, बूढ़े, स्त्री, पुरुष सभी एकत्रित हुए।'
3. ✓ गणतंत्र दिवस की परेड में बच्चे, बूढ़े, स्त्री, पुरुष सभी एकत्रित हुए।'
4. * गणतंत्र दिवस की परेड में बच्चे-बूढ़े- स्त्री-पुरुष सभी एकत्रित हुए।'

Question Number : 188 Question Id : 54592732509 Question Type : MCQ Option Shuffling : Yes
Correct Marks : 1 Wrong Marks : 0.25

निम्नलिखित प्रश्न में, चार विकल्पों में से, उस विकल्प का चयन करें जो विराम चिह्न युक्त वाक्य का सही विकल्प है।

Options :

1. * गणतंत्र दिवस की परेड में बच्चे बूढ़े स्त्री पुरुष सभी एकत्रित हुए।
2. * गणतंत्र दिवस की परेड में - बच्चे, बूढ़े, स्त्री, पुरुष सभी एकत्रित हुए।
3. ✓ गणतंत्र दिवस की परेड में बच्चे, बूढ़े, स्त्री, पुरुष सभी एकत्रित हुए।
4. * गणतंत्र दिवस की परेड में बच्चे-बूढ़े- स्त्री-पुरुष सभी एकत्रित हुए।

Question Number : 189 Question Id : 54592732510 Question Type : MCQ Option Shuffling : Yes

Correct Marks : 1 Wrong Marks : 0.25

निम्नलिखित प्रश्न में, चार विकल्पों में से, उस विकल्प का चयन करें जो विराम चिह्न युक्त वाक्य का सही विकल्प है।

Options :

1. * गोदान' "भारतीय कृषक-जीवन की व्यथा है।"
2. * गोदान' भारतीय कृषक-जीवन की व्यथा है?
3. ✓ गोदान' भारतीय कृषक-जीवन की व्यथा है।
4. * गोदान' "भारतीय कृषक-जीवन की व्यथा है"?

Question Number : 189 Question Id : 54592732510 Question Type : MCQ Option Shuffling : Yes

Correct Marks : 1 Wrong Marks : 0.25

निम्नलिखित प्रश्न में, चार विकल्पों में से, उस विकल्प का चयन करें जो विराम चिह्न युक्त वाक्य का सही विकल्प है।

Options :

1. * गोदान' "भारतीय कृषक-जीवन की व्यथा है।"
2. * गोदान' भारतीय कृषक-जीवन की व्यथा है?
3. ✓ गोदान' भारतीय कृषक-जीवन की व्यथा है।
4. * गोदान' "भारतीय कृषक-जीवन की व्यथा है"?

Question Number : 190 Question Id : 54592732511 Question Type : MCQ Option Shuffling : Yes

Correct Marks : 1 Wrong Marks : 0.25

निम्नलिखित प्रश्न में, चार विकल्पों में से, उस विकल्प का चयन करें जो विराम चिह्न युक्त वाक्य का सही विकल्प है।

Options :

1. * वह किताब - जिसे मैंने खरीदा था - फट गई।
2. ✓ वह किताब, जिसे मैंने खरीदा था, फट गई।
3. * वह किताब, "जिसे मैंने खरीदा था, फट गई।"
4. * 'वह किताब, जिसे मैंने खरीदा था, फट गई।'

Question Number : 190 Question Id : 54592732511 Question Type : MCQ Option Shuffling : Yes

Correct Marks : 1 Wrong Marks : 0.25

निम्नलिखित प्रश्न में, चार विकल्पों में से, उस विकल्प का चयन करें जो विराम चिह्न युक्त वाक्य का सही विकल्प है।

Options :

1. * वह किताब - जिसे मैंने खरीदा था - फट गई।
2. ✓ वह किताब, जिसे मैंने खरीदा था, फट गई।
3. * वह किताब, "जिसे मैंने खरीदा था, फट गई।"
4. * 'वह किताब, जिसे मैंने खरीदा था, फट गई।'

Question Number : 191 Question Id : 54592732512 Question Type : MCQ Option Shuffling : Yes

Correct Marks : 1 Wrong Marks : 0.25

निम्नलिखित प्रश्न में, चार विकल्पों में से, उस विकल्प का चयन करें जो दिए गए रिक्त स्थान के लिए सही मुहावरे वाला विकल्प है।

मैं _____ हूँ कि मेरे भाई ने कोई गलत काम नहीं किया।

Options :

1. * गजभर की छाती होना
2. * दांतों तले उँगली दबाना
3. * जोड़-तोड़ करना
4. ✓ डंके की चोट पर कहना

Question Number : 191 Question Id : 54592732512 Question Type : MCQ Option Shuffling : Yes

Correct Marks : 1 Wrong Marks : 0.25

निम्नलिखित प्रश्न में, चार विकल्पों में से, उस विकल्प का चयन करें जो दिए गए रिक्त स्थान के लिए सही मुहावरे वाला विकल्प है।

मैं _____ हूँ कि मेरे भाई ने कोई गलत काम नहीं किया।

Options :

1. * गजभर की छाती होना
2. * दांतों तले उँगली दबाना
3. * जोड़-तोड़ करना
4. ✓ डंके की चोट पर कहना

Question Number : 192 Question Id : 54592732513 Question Type : MCQ Option Shuffling : Yes

Correct Marks : 1 Wrong Marks : 0.25

निम्नलिखित प्रश्न में, चार विकल्पों में से, उस विकल्प का चयन करें जो दिए गए रिक्त स्थान के लिए सही मुहावरे वाला विकल्प है।

हिमालय की चढ़ाई करना _____ है।

Options :

1. ✓ लोहे के चने चबाना है
2. * लोहे की कील चबाना
3. * लोहा चबाना
4. * लोहा लेना

Question Number : 192 Question Id : 54592732513 Question Type : MCQ Option Shuffling : Yes

Correct Marks : 1 Wrong Marks : 0.25

निम्नलिखित प्रश्न में, चार विकल्पों में से, उस विकल्प का चयन करें जो दिए गए रिक्त स्थान के लिए सही मुहावरे वाला विकल्प है।

हिमालय की चढ़ाई करना _____ है।

Options :

1. ✓ लोहे के चने चबाना है
2. * लोहे की कील चबाना
3. * लोहा चबाना
4. * लोहा लेना

Question Number : 193 Question Id : 54592732514 Question Type : MCQ Option Shuffling : Yes

Correct Marks : 1 Wrong Marks : 0.25

निम्नलिखित प्रश्न में, चार विकल्पों में से, उस विकल्प का चयन करें जो दिए गए रिक्त स्थान के लिए सही मुहावरे वाला विकल्प है।

वह कभी झूठ नहीं बोलता, उसने जो कुछ भी कहा उसे _____ समझो।

Options :

1. * पीठ दिखाना
2. * पाला पड़ना
3. * पापड़ बेलना
4. ✓ पत्थर की लकीर

Question Number : 193 Question Id : 54592732514 Question Type : MCQ Option Shuffling : Yes

Correct Marks : 1 Wrong Marks : 0.25

निम्नलिखित प्रश्न में, चार विकल्पों में से, उस विकल्प का चयन करें जो दिए गए रिक्त स्थान के लिए सही मुहावरे वाला विकल्प है।

वह कभी झूठ नहीं बोलता, उसने जो कुछ भी कहा उसे _____ समझो।

Options :

1. ✖ पीठ दिखाना
2. ✖ पाला पड़ना
3. ✖ पापड़ बेलना
4. ✔ पत्थर की लकीर

Question Number : 194 Question Id : 54592732515 Question Type : MCQ Option Shuffling : Yes

Correct Marks : 1 Wrong Marks : 0.25

निम्नलिखित प्रश्न में, चार विकल्पों में से, उस सही विकल्प का चयन करें जो दिए गए वाक्यांश के लिए सही लोकोक्ति वाला विकल्प है।

बिना हानि के काम हो जाना

Options :

1. ✖ आम के आम गुठलियों के दाम
2. ✖ खरी मजूरी चोखा काम
3. ✔ साँप मरे न लाठी टूटे
4. ✖ जिसकी लाठी उसकी भैंस

Question Number : 194 Question Id : 54592732515 Question Type : MCQ Option Shuffling : Yes

Correct Marks : 1 Wrong Marks : 0.25

निम्नलिखित प्रश्न में, चार विकल्पों में से, उस सही विकल्प का चयन करें जो दिए गए वाक्यांश के लिए सही लोकोक्ति वाला विकल्प है।

बिना हानि के काम हो जाना

Options :

1. ✖ आम के आम गुठलियों के दाम
2. ✖ खरी मजूरी चोखा काम
3. ✔ साँप मरे न लाठी टूटे
4. ✖ जिसकी लाठी उसकी भैंस

Question Number : 195 Question Id : 54592732516 Question Type : MCQ Option Shuffling : Yes

Correct Marks : 1 Wrong Marks : 0.25

निम्नलिखित प्रश्न में, चार विकल्पों में से, उस विकल्प का चयन करें जो दिए गए वाक्यांश के लिए सही लोकोक्ति वाला विकल्प है।

अचानक लाभ होना

Options :

1. * जान है तो जहान है
2. ✓ बिल्ली के भाग्य से छींका टूटा
3. * नत मस्तक होना
4. * कामयाब होना

Question Number : 195 Question Id : 54592732516 Question Type : MCQ Option Shuffling : Yes

Correct Marks : 1 Wrong Marks : 0.25

निम्नलिखित प्रश्न में, चार विकल्पों में से, उस विकल्प का चयन करें जो दिए गए वाक्यांश के लिए सही लोकोक्ति वाला विकल्प है।

अचानक लाभ होना

Options :

1. * जान है तो जहान है
2. ✓ बिल्ली के भाग्य से छींका टूटा
3. * नत मस्तक होना
4. * कामयाब होना

Sub-Section Number:	2
Sub-Section Id:	5459271932
Question Shuffling Allowed :	Yes

Question Id : 54592732517 Question Type : COMPREHENSION Sub Question Shuffling Allowed : Yes Group Comprehension Questions : No

Question Numbers : (196 to 200)

Question Label : Comprehension

इस गद्यांश को ध्यानपूर्वक पढ़ें और चार विकल्पों में से प्रत्येक प्रश्न का सर्वोत्तम उत्तर चुनें।

हमारा समाज जनसंख्या की समस्या से ग्रस्त है जो निरंतर तेजी से बढ़ती ही जा रही है। इसका प्रभाव पूरे समाज पर पड़ रहा है। हमारे साधन, उत्पादन में इसके अनुसार वृद्धि नहीं हो पा रही है जिससे अनेक समस्याएँ सामने आ रही हैं। बेरोजगारी, महँगाई, अपराध आदि क्षेत्रों में बढ़ोतरी हो रही है। कभी-कभी ऐसे लगता है कि हमारे समाज को घून लग गया है जो उसे अंदर-ही-अंदर खाए जा रहा है, फिर भी निराश होने की आवश्यकता नहीं है। ठोस प्रयत्न करने पर सब कुछ ठीक हो सकता है। हमने नैतिकता से किनारा कर लिया है और आचरण को कोई महत्व नहीं देते। आज नैतिकता और सदाचार को बीते युग की बातें समझा जाता है। अपने स्वार्थ सिद्ध हो जाएँ, बस यही सब कुछ है। दूसरों का क्या होगा, समाज का क्या होगा, इस बात से कोई संबंध नहीं। आज कालाधन बटोरा जाता है माल को गोदाम में रोककर कृत्रिम अभाव पैदा किया जाता है जिससे जमाखोरी और मुनाफाखोरी बढ़ती है। रिश्तत लेने और देने का धंधा चल रहा है। इसी प्रकार सफेदपोशों द्वारा नियमों व कानूनों का उल्लंघन किया जा रहा है और समाज गर्त में जा रहा है।

Sub questions

Question Number : 196 Question Id : 54592732518 Question Type : MCQ Option Shuffling : Yes

Correct Marks : 1 Wrong Marks : 0.25

समाज पर किस बात का प्रभाव पड़ रहा है?

Options :

1. * सदाचार का
2. * अपराध का
3. * उत्पादन का
4. ✓ जनसंख्या का

Question Number : 197 Question Id : 54592732519 Question Type : MCQ Option Shuffling : Yes

Correct Marks : 1 Wrong Marks : 0.25

आज हमारे समाज का माहौल कैसा हो गया है?

Options :

1. ✓ स्वार्थ सिद्धि का
2. * नैतिकता और सदाचार का

3. * दूसरों की मदद का

4. * समाज के विकास का

Question Number : 198 Question Id : 54592732520 Question Type : MCQ Option Shuffling : Yes
Correct Marks : 1 Wrong Marks : 0.25

नियमों और कानूनों के उल्लंघन से क्या हो रहा है?

Options :

1. * समाज का विकास हो रहा है

2. * लोग विकसित हो रहे हैं

3. ✓ समाज गड़ढ़े में जा रहा है

4. * समस्याएँ कम हो रही हैं

Question Number : 199 Question Id : 54592732521 Question Type : MCQ Option Shuffling : Yes
Correct Marks : 1 Wrong Marks : 0.25

इनमें से कौन - सा कृत्रिम का पर्यायवाची नहीं है?

Options :

1. * दिखावटी

2. ✓ मौलिक

3. * नकली

4. * असहज

Question Number : 200 Question Id : 54592732522 Question Type : MCQ Option Shuffling : Yes
Correct Marks : 1 Wrong Marks : 0.25

इस अनुच्छेद का कोई उपयुक्त शीर्षक:

Options :

1. * आवश्यकता और हम

2. * समाज का विकास

3. * समाज और लोग

4. ✓ जनसंख्या की समस्या

Question Id : 54592732517 Question Type : COMPREHENSION Sub Question Shuffling Allowed : Yes Group Comprehension
Questions : No

Question Numbers : (196 to 200)

Question Label : Comprehension

इस गद्यांश को ध्यानपूर्वक पढ़ें और चार विकल्पों में से प्रत्येक प्रश्न का सर्वोत्तम उत्तर चुनें।

हमारा समाज जनसंख्या की समस्या से ग्रस्त है जो निरंतर तेजी से बढ़ती ही जा रही है। इसका प्रभाव पूरे समाज पर पड़ रहा है। हमारे साधन, उत्पादन में इसके अनुसार वृद्धि नहीं हो पा रही है जिससे अनेक समस्याएँ सामने आ रही हैं। बेरोजगारी, महँगाई, अपराध आदि क्षेत्रों में बढ़ोतरी हो रही है। कभी-कभी ऐसे लगता है कि हमारे समाज को घून लग गया है जो उसे अंदर-ही-अंदर खाए जा रहा है, फिर भी निराश होने की आवश्यकता नहीं है। ठोस प्रयत्न करने पर सब कुछ ठीक हो सकता है। हमने नैतिकता से किनारा कर लिया है और आचरण को कोई महत्व नहीं देते। आज नैतिकता और सदाचार को बीते युग की बातें समझा जाता है। अपने स्वार्थ सिद्ध हो जाएँ, बस यही सब कुछ है। दूसरों का क्या होगा, समाज का क्या होगा, इस बात से कोई संबंध नहीं। आज कालाधन बटोरा जाता है माल को गोदाम में रोककर कृत्रिम अभाव पैदा किया जाता है जिससे जमाखोरी और मुनाफाखोरी बढ़ती है। रिश्वत लेने और देने का धंधा चल रहा है। इसी प्रकार सफेदपोशों द्वारा नियमों व कानूनों का उल्लंघन किया जा रहा है और समाज गर्त में जा रहा है।

Sub questions

Question Number : 196 Question Id : 54592732518 Question Type : MCQ Option Shuffling : Yes
Correct Marks : 1 Wrong Marks : 0.25

समाज पर किस बात का प्रभाव पड़ रहा है?

Options :

1. * सदाचार का
2. * अपराध का

3. ✖ उत्पादन का

4. ✔ जनसंख्या का

Question Number : 197 Question Id : 54592732519 Question Type : MCQ Option Shuffling : Yes

Correct Marks : 1 Wrong Marks : 0.25

आज हमारे समाज का माहौल कैसा हो गया है?

Options :

1. ✔ स्वार्थ सिद्धि का

2. ✖ नैतिकता और सदाचार का

3. ✖ दूसरों की मदद का

4. ✖ समाज के विकास का

Question Number : 198 Question Id : 54592732520 Question Type : MCQ Option Shuffling : Yes

Correct Marks : 1 Wrong Marks : 0.25

नियमों और कानूनों के उल्लंघन से क्या हो रहा है?

Options :

1. ✖ समाज का विकास हो रहा है

2. ✖ लोग विकसित हो रहे हैं

3. ✔ समाज गड़ड़े में जा रहा है

4. ✖ समस्याएँ कम हो रही हैं

Question Number : 199 Question Id : 54592732521 Question Type : MCQ Option Shuffling : Yes

Correct Marks : 1 Wrong Marks : 0.25

इनमें से कौन - सा कृत्रिम का पर्यायवाची नहीं है?

Options :

1. ✖ दिखावटी

2. ✔ मौलिक

3. ✖ नकली

4. ✖ असहज

Question Number : 200 Question Id : 54592732522 Question Type : MCQ Option Shuffling : Yes
Correct Marks : 1 Wrong Marks : 0.25

इस अनुच्छेद का कोई उपयुक्त शीर्षक:

Options :

1. ✖ आवश्यकता और हम
2. ✖ समाज का विकास
3. ✖ समाज और लोग
4. ✔ जनसंख्या की समस्या