

Education Consultant India Ltd.

Notations :

1.Options shown in **green** color and with ✓ icon are correct.

2.Options shown in **red** color and with ✖ icon are incorrect.

Question Paper Name:	LDC Male 05th September 2019 Shift 2
Subject Name:	LDC MALE
Creation Date:	2019-09-05 15:59:24
Duration:	120
Total Marks:	200
Display Marks:	Yes
Share Answer Key With Delivery Engine:	No
Actual Answer Key:	Yes
Calculator:	None
Magnifying Glass Required?:	No
Ruler Required?:	No
Eraser Required?:	No
Scratch Pad Required?:	No
Rough Sketch/Notepad Required?:	No
Protractor Required?:	No
Show Watermark on Console?:	Yes
Highlighter:	No
Auto Save on Console?:	No

Mental Ability1

Group Number :	1
Group Id :	5459271231
Group Maximum Duration :	0
Group Minimum Duration :	0
Show Attended Group? :	No
Edit Attended Group? :	No
Break time:	0
Group Marks:	20
Is this Group for Examiner?:	No
Revisit allowed for group Instructions? :	Yes
Maximum Instruction Time:	0
Minimum Instruction Time:	0

Mental Ability1

Section Id :	5459271231
Section Number :	1

Section type :	Online
Mandatory or Optional:	Mandatory
Number of Questions:	20
Number of Questions to be attempted:	20
Section Marks:	20

Sub-Section Number:	1
Sub-Section Id:	5459271477
Question Shuffling Allowed :	Yes

Question Number : 1 Question Id : 54592724847 Question Type : MCQ Option Shuffling : Yes
Correct Marks : 1 Wrong Marks : 0.25

From the given responses, find the missing letter in the series.

Z, A, Y, ?, X, E, W, G

Options :

1. ✘ B
2. ✔ C
3. ✘ D
4. ✘ E

Question Number : 1 Question Id : 54592724847 Question Type : MCQ Option Shuffling : Yes
Correct Marks : 1 Wrong Marks : 0.25

दिए गए विकल्पों में से श्रेणी में लुप्त अक्षर को ज्ञात करे:

Z,A, Y, ?, X, E, W, G

Options :

1. ✘ B
2. ✔ C
3. ✘ D
4. ✘ E

Question Number : 2 Question Id : 54592724848 Question Type : MCQ Option Shuffling : Yes
Correct Marks : 1 Wrong Marks : 0.25

Find out the next term.

J100, L144, N196, P256,?

Options :

1. ✖ T361

2. ✖ S225

3. ✔ R324

4. ✖ R289

Question Number : 2 Question Id : 54592724848 Question Type : MCQ Option Shuffling : Yes

Correct Marks : 1 Wrong Marks : 0.25

अगला पद ज्ञात करें।

J100, L144, N196, P256,?

Options :

1. ✖ T361

2. ✖ S225

3. ✔ R324

4. ✖ R289

Question Number : 3 Question Id : 54592724849 Question Type : MCQ Option Shuffling : Yes

Correct Marks : 1 Wrong Marks : 0.25

In the word 'SERIES' how many pairs of words have as many letter as in English alphabet?

Options :

1. ✖ One

2. ✖ Two

3. ✖ Three

4. ✔ None

Question Number : 3 Question Id : 54592724849 Question Type : MCQ Option Shuffling : Yes
Correct Marks : 1 Wrong Marks : 0.25

SERIES' शब्द में अंग्रेजी वर्णमाला में कितने ऐसे जोड़े हैं हैं जिनके बीच उतने ही अक्षर हैं जितना अंग्रेजी वर्णमाला में आते हैं उन दोनों अक्षर में?

Options :

1. * एक
2. * दो
3. * तीन
4. ✓ कोई नहीं

Question Number : 4 Question Id : 54592724850 Question Type : MCQ Option Shuffling : Yes
Correct Marks : 1 Wrong Marks : 0.25

Find the odd one out from the given alternatives.

Options :

1. * Africa
2. ✓ New Zealand
3. * Asia
4. * Europe

Question Number : 4 Question Id : 54592724850 Question Type : MCQ Option Shuffling : Yes
Correct Marks : 1 Wrong Marks : 0.25

दिए गए विकल्पों में से विषम ज्ञात करें।

Options :

1. * अफ्रीका
2. ✓ न्यूजीलैंड
3. * एशिया
4. * यूरोप

Question Number : 5 Question Id : 54592724851 Question Type : MCQ Option Shuffling : Yes
Correct Marks : 1 Wrong Marks : 0.25

In each of the following questions, certain pairs of words are given, out of which the words in all pairs except one, bear a certain common relationship. Choose the pair in which the words are differently related.

Options :

1. * Circle : Arc
2. * Train : Berth
3. * Car : Steering
4. ✓ Pen: Paper

Question Number : 5 Question Id : 54592724851 Question Type : MCQ Option Shuffling : Yes
Correct Marks : 1 Wrong Marks : 0.25

निम्नलिखित प्रत्येक प्रश्न में, कुछ निश्चित शब्द दिए गए हैं, जिनमें से एक को छोड़कर सभी जोड़े में शब्द एक निश्चित सामान्य संबंध है। उस जोड़ी को चुनें जिसमें शब्द अलग तरह से संबंधित हैं।

Options :

1. * सर्किल : चाप
2. * ट्रेन : बर्थ
3. * कार : स्टीयरिंग
4. ✓ पेन : पेपर

Question Number : 6 Question Id : 54592724852 Question Type : MCQ Option Shuffling : Yes
Correct Marks : 1 Wrong Marks : 0.25

Choose the odd one from the given alternatives.

Options :

1. ✓ FI : KI
2. * BE : AX
3. * HK : PM
4. * KN : TQ

Question Number : 6 Question Id : 54592724852 Question Type : MCQ Option Shuffling : Yes
Correct Marks : 1 Wrong Marks : 0.25

दिए गए विकल्पों में से विषम को चुनिए।

Options :

1. ✓ FI : KI
2. ✗ BE : AX
3. ✗ HK : PM
4. ✗ KN : TQ

Question Number : 7 Question Id : 54592724853 Question Type : MCQ Option Shuffling : Yes
Correct Marks : 1 Wrong Marks : 0.25

In the following question, select the related letter/word/number from the given alternatives.

Madhya Pradesh : Jabalpur :: Uttar Pradesh : _____

Options :

1. ✓ Prayagraj
2. ✗ Lucknow
3. ✗ Gaziabad
4. ✗ Delhi

Question Number : 7 Question Id : 54592724853 Question Type : MCQ Option Shuffling : Yes
Correct Marks : 1 Wrong Marks : 0.25

निम्नलिखित प्रश्न में दिए गए विकल्पों में से सम्बन्धित अक्षर/शब्द/संख्या को चुनिए।

मध्य प्रदेश: जबलपुर :: उत्तर प्रदेश: _____

Options :

1. ✓ प्रयागराज
2. ✗ लखनऊ

3. * गाजियाबाद

4. * दिल्ली

Question Number : 8 Question Id : 54592724854 Question Type : MCQ Option Shuffling : Yes

Correct Marks : 1 Wrong Marks : 0.25

In the following question, select the related letter/word/number from the given alternatives.

FEH : MLO :: ONQ : _____

Options :

1. * PTV

2. * MTV

3. * TVS

4. ✓ VUX

Question Number : 8 Question Id : 54592724854 Question Type : MCQ Option Shuffling : Yes

Correct Marks : 1 Wrong Marks : 0.25

निम्नलिखित प्रश्न में दिए गए विकल्पों में से सम्बन्धित अक्षर/शब्द/संख्या को चुनिए।

FEH: MLO: : ONQ: _____

Options :

1. * PTV

2. * MTV

3. * TVS

4. ✓ VUX

Question Number : 9 Question Id : 54592724855 Question Type : MCQ Option Shuffling : Yes

Correct Marks : 1 Wrong Marks : 0.25

In the following question, select the related letter/word/number from the given alternatives.

TJ : LF :: _____

Options :

1. ✓ PH : VK
2. ✗ TL : VK
3. ✗ XM : LG
4. ✗ NK : DC

Question Number : 9 Question Id : 54592724855 Question Type : MCQ Option Shuffling : Yes

Correct Marks : 1 Wrong Marks : 0.25

निम्नलिखित प्रश्न में, दिए गए विकल्पों में से संबंधित अक्षर / शब्द / संख्या को चुनिए।

TJ : LF :: _____

Options :

1. ✓ PH : VK
2. ✗ TL : VK
3. ✗ XM : LG
4. ✗ NK : DC

Question Number : 10 Question Id : 54592724856 Question Type : MCQ Option Shuffling : Yes

Correct Marks : 1 Wrong Marks : 0.25

In a certain code language, if PRINCE = 60 and ACTOR = 50, then PRODUCER = ?

Options :

1. ✗ 90
2. ✓ 80

3. ✖ 110

4. ✖ 120

Question Number : 10 Question Id : 54592724856 Question Type : MCQ Option Shuffling : Yes

Correct Marks : 1 Wrong Marks : 0.25

एक निश्चित कूट भाषा में, यदि PRINCE = 60 और ACTOR = 50, तो PRODUCER = ?

Options :

1. ✖ 90

2. ✔ 80

3. ✖ 110

4. ✖ 120

Question Number : 11 Question Id : 54592724857 Question Type : MCQ Option Shuffling : Yes

Correct Marks : 1 Wrong Marks : 0.25

In a certain code language, 'loc pik tom' means 'Dancing was Innovating, 'tom jab nim' means 'Painting was great' and 'pik oki ja' means 'Dancing or Painting'.

Which of the following means 'great' in that code language?

Options :

1. ✔ nim

2. ✖ loc

3. ✖ jab

4. ✖ tom

Question Number : 11 Question Id : 54592724857 Question Type : MCQ Option Shuffling : Yes

Correct Marks : 1 Wrong Marks : 0.25

एक निश्चित कूट भाषा में, 'loc pik tom' का अर्थ है 'Dancing was Innovating', 'tom jab nim' का अर्थ है 'Painting was great' और 'pik oki jab' का अर्थ है 'Dancing or Painting'.

उस कूट भाषा में निम्नलिखित में से कौन-सा 'great' का अर्थ है?

Options :

1. ✓ nim

2. ✗ loc

3. ✗ jab

4. ✗ tom

Question Number : 12 Question Id : 54592724858 Question Type : MCQ Option Shuffling : Yes

Correct Marks : 1 Wrong Marks : 0.25

In the following question, a group of letters is given which are numbered 1, 2, 3, 4, 5 and 6. Below are given four alternatives containing combinations of these numbers. Select that combination of numbers so that letters arranged accordingly, form a meaningful word.

I G N T A C

1 2 3 4 5 6

Options :

1. ✗ 4, 6, 3, 5, 2, 1

2. ✓ 5, 6, 4, 1, 3, 2

3. ✗ 4, 6, 5, 2, 3, 1

4. ✗ 5, 2, 3, 1, 6, 4

Question Number : 12 Question Id : 54592724858 Question Type : MCQ Option Shuffling : Yes

Correct Marks : 1 Wrong Marks : 0.25

निम्नलिखित प्रश्न में, अक्षरों का एक समूह दिया गया है , संख्या 1, 2, 3, 4, 5 और 6 नीचे दिए गए हैं, इन संख्याओं के संयोजन वाले चार विकल्प दिए गए हैं। संख्याओं के उस संयोजन का चयन करें ताकि अक्षरों के अनुसार व्यवस्थित हो, एक सार्थक शब्द बनाएं।

I G N T A C

1 2 3 4 5 6

Options :

1. ✖ 4, 6, 3, 5, 2, 1

2. ✔ 5, 6, 4, 1, 3, 2

3. ✖ 4, 6, 5, 2, 3, 1

4. ✖ 5, 2, 3, 1, 6, 4

Question Number : 13 Question Id : 54592724859 Question Type : MCQ Option Shuffling : Yes
Correct Marks : 1 Wrong Marks : 0.25

Six executives face each other around a circular table to discuss a project.

The CEO sits two places to the left of the HOD. The General Manager and Manager sit opposite each other. The Team leader sits to the immediate right of the General Manager. Who sits to the immediate right of the Developer?

Options :

1. ✖ Manager

2. ✔ General Manager.

3. ✖ HOD

4. ✖ CEO

Question Number : 13 Question Id : 54592724859 Question Type : MCQ Option Shuffling : Yes
Correct Marks : 1 Wrong Marks : 0.25

एक अधिकारी एक परियोजना पर चर्चा करने के लिए एक वृत्ताकार मेज़ के चारों ओर एक दूसरे के तरफ मुख करके बैठे हैं।

CEO, HOD के बाईं ओर दूसरे स्थान पर बैठता है। महाप्रबंधक और प्रबंधक एक दूसरे के विपरीत बैठते हैं। टीम लीडर, महाप्रबंधक के निकटतम दाएं बैठता है। डिवेलपर (विकासक)के निकटतम दाईं ओर कौन बैठता है?

Options :

1. ✖ प्रबंधक
2. ✔ महाप्रबंधक
3. ✖ HOD
4. ✖ CEO

Question Number : 14 Question Id : 54592724860 Question Type : MCQ Option Shuffling : Yes
Correct Marks : 1 Wrong Marks : 0.25

Among five Students. Vishal is taller than Mohan, but not as tall as Suraj. Sumit is taller than Dinesh, but shorter than Mohan. Who is the tallest in the group?

Options :

1. ✔ Suraj
2. ✖ Sumit
3. ✖ Dinesh
4. ✖ Mohan

Question Number : 14 Question Id : 54592724860 Question Type : MCQ Option Shuffling : Yes
Correct Marks : 1 Wrong Marks : 0.25

पांच छात्रों के बीच। विशाल, मोहन से लंबा है, लेकिन सूरज जितना लंबा नहीं है। सुमित, दिनेश से लंबा है, लेकिन मोहन से छोटा है। समूह में सबसे लंबा कौन है?

Options :

1. ✓ सूरज
2. ✗ सुमित
3. ✗ दिनेश
4. ✗ मोहन

Question Number : 15 Question Id : 54592724861 Question Type : MCQ Option Shuffling : Yes

Correct Marks : 1 Wrong Marks : 0.25

Pandya and Bumrah are ranked 7th and 11th respectively from the top in a class of 31 students. What will be their respective ranks from the bottom in the class?

Options :

1. ✗ 26th and 22nd
2. ✗ 20th and 24th
3. ✗ 24th and 20th
4. ✓ 25th and 21st

Question Number : 15 Question Id : 54592724861 Question Type : MCQ Option Shuffling : Yes

Correct Marks : 1 Wrong Marks : 0.25

31 विद्यार्थियों की एक कक्षा में पंड्या और बुमराह की शीर्ष से क्रमशः 7वीं और 11वीं श्रेणी है। कक्षा में नीचे से दोनों की क्रमशः क्या श्रेणी होगी?

Options :

1. ✗ 26 वां और 22 वां
2. ✗ 20 वां और 24 वां
3. ✗ 24 वां और 20 वां

4. ✓ 25 वां और 21 वां

Question Number : 16 Question Id : 54592724862 Question Type : MCQ Option Shuffling : Yes
Correct Marks : 1 Wrong Marks : 0.25

A, B, C, D, E and F are going on a trip.

(ii) There are two Anchor, two Engineers, one Beautician and one Poet in the group.

(iii) The Beautician F is married to C who is an Anchor.

(iv) The Poet is married to E who is of the same profession as that of A.

(v) F, D, E, C are two married couples and nobody in the group has same profession.

(vi) A is brother of D.

Which of the following is a pair of Engineer?

Options :

1. ✘ F and A

2. ✘ C and A

3. ✓ E and A

4. ✘ E and F

Question Number : 16 Question Id : 54592724862 Question Type : MCQ Option Shuffling : Yes
Correct Marks : 1 Wrong Marks : 0.25

A, B, C, D, E और F यात्रा पर जा रहे हैं।

(ii) समूह में दो एंकर, दो इंजीनियर, एक ब्यूटीशियन और एक कवि हैं।

(iii) ब्यूटीशियन F की शादी C से होती है जो एक एंकर है।

(iv) कवि E से विवाहित है जो A के समान पेशे का है।

(v) F, D, E, C दो विवाहित जोड़े हैं और समूह में किसी का भी पेशा समान नहीं है।

(vi) A, D का भाई है।

निम्नलिखित में से कौन सी एक जोड़ी इंजीनियरों की है?

Options :

1. * F और A

2. * C और A

3. ✓ E और A

4. * E और F

Question Number : 17 Question Id : 54592724863 Question Type : MCQ Option Shuffling : Yes

Correct Marks : 1 Wrong Marks : 0.25

Pointing to a photograph, Rahul said, "He is the father of my father's grandson, But that grandson is not my son" Whose photograph was this?

Options :

1. * Rahul Himself

2. * Rahul's Sister

3. ✓ Rahul's Brother

4. * Rahul's Brother in law

Question Number : 17 Question Id : 54592724863 Question Type : MCQ Option Shuffling : Yes

Correct Marks : 1 Wrong Marks : 0.25

एक तस्वीर की ओर इशारा करते हुए, राहुल ने कहा, "वह मेरे पिता के पोते का पिता है, लेकिन वह पोता मेरा बेटा नहीं है" यह तस्वीर किसकी थी?

Options :

1. * राहुल स्वयं
2. * राहुल की बहन
3. ✓ राहुल का भाई
4. * राहुल के जीजा/साला

Question Number : 18 Question Id : 54592724864 Question Type : MCQ Option Shuffling : Yes

Correct Marks : 1 Wrong Marks : 0.25

In the question below, there are two statements followed by three conclusions. You have to take the given statements to be true even if they seem to be at variance with commonly known facts and then decide which of the given conclusion logically follow(s) from the given statements.

Statements:

- I. All men are prisoners.
- II. No prisoners are educated.

Conclusions:

- I. All prisoners are educated.
- II. No men are educated.
- III. Some educated are prisoners.

Options :

1. * If only conclusion I is true
2. ✓ If only conclusion II is true

3. * If conclusion I and II follow.

4. * If conclusion I and III follow.

Question Number : 18 Question Id : 54592724864 Question Type : MCQ Option Shuffling : Yes

Correct Marks : 1 Wrong Marks : 0.25

नीचे दिए गए प्रश्न में दो कथन और उसके बाद तीन निष्कर्ष दिए गए हैं। आपको दिए गए कथनों को सत्य मानना है भले ही वे सर्वज्ञात तथ्यों से भिन्न प्रतीत होते हों। सभी निष्कर्षों को पढ़िए फिर तय कीजिए कि दिए गए निष्कर्षों में से कौन सा तर्कसंगत रूप से अनुसरण करता है, चाहे सर्वज्ञात तथ्य कुछ भी हों।

कथन:

- I. सभी आदमी, कैदी हैं।
- II. कोई कैदी शिक्षित नहीं है।

निष्कर्ष:

- I. सभी कैदी, शिक्षित हैं।
- II. कोई आदमी, शिक्षित नहीं है।
- III. कुछ शिक्षित, कैदी हैं।

Options :

1. * यदि केवल निष्कर्ष I सत्य है
2. ✓ यदि केवल निष्कर्ष II सत्य है
3. * यदि निष्कर्ष I और II सत्य हैं
4. * यदि निष्कर्ष I और III सत्य हैं

Question Number : 19 Question Id : 54592724865 Question Type : MCQ Option Shuffling : Yes

Correct Marks : 1 Wrong Marks : 0.25

For the Assertion (A) and Reason (R) given below, choose the correct alternative from the following:

Assertion (A): Barometers are used to predict short term weather change.

Reason (R): Barometer measures air pressure.

Options :

1. ✓ Both (A) and (R) are true and (R) is the correct explanation of (A)
2. ✖ Both (A) and (R) are true, but (R) is not the correct explanation of (A)
3. ✖ (A) is true, but (R) is false
4. ✖ (A) is false, but (R) is true

Question Number : 19 Question Id : 54592724865 Question Type : MCQ Option Shuffling : Yes

Correct Marks : 1 Wrong Marks : 0.25

नीचे दिए गए अभिकथन (A) और कारण (B) के लिए, निम्नलिखित में से सही विकल्प चुनें:

अभिकथन (A): बैरोमीटर का उपयोग अल्पकालिक मौसम परिवर्तन की भविष्यवाणी करने के लिए किया जाता है।

कारण (R): बैरोमीटर हवा के दबाव को मापता है।

Options :

1. ✓ दोनों (A) और (R) सत्य हैं और (R), (A) का सही विवरण करता है
2. ✖ दोनों (A) और (R) सत्य हैं, लेकिन (R), (A) का सही विवरण नहीं करता है
3. ✖ (A) सत्य है, लेकिन (R) गलत है
4. ✖ (A) गलत है, लेकिन (R) सत्य है

Question Number : 20 Question Id : 54592724866 Question Type : MCQ Option Shuffling : Yes
Correct Marks : 1 Wrong Marks : 0.25

Complete the following series.

7, 11, 18, 31, ?

Options :

1. ✖ 48

2. ✔ 56

3. ✖ 52

4. ✖ 65

Question Number : 20 Question Id : 54592724866 Question Type : MCQ Option Shuffling : Yes
Correct Marks : 1 Wrong Marks : 0.25

निम्नलिखित श्रृंखला को पूरा करें।

7, 11, 18, 31, ?

Options :

1. ✖ 48

2. ✔ 56

3. ✖ 52

4. ✖ 65

Mental Ability2

Group Number :	2
Group Id :	5459271232
Group Maximum Duration :	0
Group Minimum Duration :	0
Show Attended Group? :	No
Edit Attended Group? :	No
Break time:	0
Group Marks:	20
Is this Group for Examiner?:	No
Revisit allowed for group Instructions? :	Yes

Maximum Instruction Time: 0
Minimum Instruction Time: 0

Mental Ability2

Section Id : 5459271232
Section Number : 1
Section type : Online
Mandatory or Optional: Mandatory
Number of Questions: 20
Number of Questions to be attempted: 20
Section Marks: 20

Sub-Section Number: 1
Sub-Section Id: 5459271478
Question Shuffling Allowed : Yes

Question Number : 21 Question Id : 54592724867 Question Type : MCQ Option Shuffling : Yes
Correct Marks : 1 Wrong Marks : 0.25

Find the wrong term in the given series.

2, 10, 34, 105, 322

Options :

1. ✓ 105

2. ✗ 322

3. ✗ 34

4. ✗ 10

Question Number : 21 Question Id : 54592724867 Question Type : MCQ Option Shuffling : Yes
Correct Marks : 1 Wrong Marks : 0.25

दी गई श्रृंखला में गलत पद ज्ञात करें:

2, 10, 34, 105, 322

Options :

1. ✓ 105

2. ✗ 322

3. ✖ 34

4. ✖ 10

Question Number : 22 Question Id : 54592724868 Question Type : MCQ Option Shuffling : Yes
Correct Marks : 1 Wrong Marks : 0.25

Choose the odd one from the given options:

Options :

1. ✔ 11

2. ✖ 21

3. ✖ 39

4. ✖ 45

Question Number : 22 Question Id : 54592724868 Question Type : MCQ Option Shuffling : Yes
Correct Marks : 1 Wrong Marks : 0.25

दिए गए विकल्पों में से भिन्न संख्या को चुनें।

Options :

1. ✔ 11

2. ✖ 21

3. ✖ 39

4. ✖ 45

Question Number : 23 Question Id : 54592724869 Question Type : MCQ Option Shuffling : Yes
Correct Marks : 1 Wrong Marks : 0.25

Choose the odd numeral pair/group in each of the following questions.

Options :

1. ✖ 19 _ 29

2. ✖ 67 _ 73

3. ✖ 41 _ 43

4. ✔ 74 _ 88

Question Number : 23 Question Id : 54592724869 Question Type : MCQ Option Shuffling : Yes
Correct Marks : 1 Wrong Marks : 0.25

निम्नलिखित प्रत्येक प्रश्न में विषम संख्या वाले युग्म / समूह को चुनिए

|

Options :

1. ✖ 19 _ 29

2. ✖ 67 _ 73

3. ✖ 41 _ 43

4. ✔ 74 _ 88

Question Number : 24 Question Id : 54592724870 Question Type : MCQ Option Shuffling : Yes
Correct Marks : 1 Wrong Marks : 0.25

Choose or find odd number pair.

Options :

1. ✖ 13 : 7 : 216

2. ✖ 17 : 10 : 343

3. ✖ 19 : 11 : 512

4. ✔ 15 : 10 : 100

Question Number : 24 Question Id : 54592724870 Question Type : MCQ Option Shuffling : Yes
Correct Marks : 1 Wrong Marks : 0.25

विषम संख्या वाली जोड़ी/समूह का चयन कीजिए।

Options :

1. ✖ 13 : 7 : 216

2. ✖ 17 : 10 : 343

3. ✖ 19 : 11 : 512

4. ✔ 15 : 10 : 100

Question Number : 25 Question Id : 54592724871 Question Type : MCQ Option Shuffling : Yes
Correct Marks : 1 Wrong Marks : 0.25

In the following question, select the related letter/word/number from the given alternatives.

(121, 169, 225)

Options :

1. ✖ (441, 529, 576)
2. ✖ (441,484,625)
3. ✖ (441, 529, 676)
4. ✔ (441, 529, 625)

Question Number : 25 Question Id : 54592724871 Question Type : MCQ Option Shuffling : Yes
Correct Marks : 1 Wrong Marks : 0.25

निम्नलिखित प्रश्न में दिए गए विकल्पों में से सम्बन्धित अक्षर/शब्द/संख्या को चुनिए।


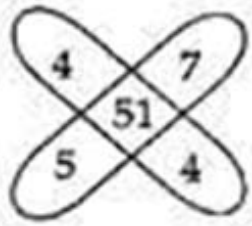
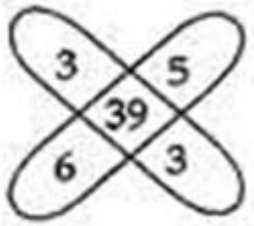
(121, 169, 225)

Options :

1. ✖ (441, 529, 576)
2. ✖ (441,484,625)
3. ✖ (441, 529, 676)
4. ✔ (441, 529, 625)

Question Number : 26 Question Id : 54592724872 Question Type : MCQ Option Shuffling : Yes
Correct Marks : 1 Wrong Marks : 0.25

Find the missing number in the given figures:



Options :

1. ✖ 35

2. ✔ 37


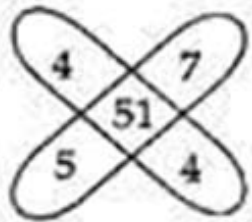
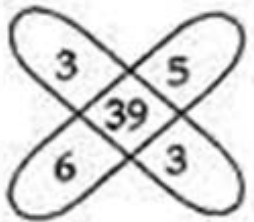
3. ✖ 45

4. ✖ 47

Question Number : 26 Question Id : 54592724872 Question Type : MCQ Option Shuffling : Yes

Correct Marks : 1 Wrong Marks : 0.25

लुप्त संख्या का ज्ञात करें।



Options :

1. ✖ 35

2. ✔ 37

3. ✖ 45

4. ✖ 47

Question Number : 27 Question Id : 54592724873 Question Type : MCQ Option Shuffling : Yes

Correct Marks : 1 Wrong Marks : 0.25

If '+' stands for multiplication, 'x' stands for division, '-' stands for addition and '÷' stands for subtraction, what is the answer for the following equation?

$$20 - 5 \div 18 \times (3 + 2) = ?$$

Options :

1. ✖ 20
2. ✖ 18
3. ✖ 108
4. ✔ 22

Question Number : 27 Question Id : 54592724873 Question Type : MCQ Option Shuffling : Yes
Correct Marks : 1 Wrong Marks : 0.25

यदि '+' का अर्थ गुणा है, 'x' का अर्थ भाग है, '-' का अर्थ जोड़ना है और '÷' का अर्थ घटाना है, निम्नलिखित समीकरण का उत्तर दे?

$$20 - 5 \div 18 \times (3 + 2) = ?$$

Options :

1. ✖ 20
2. ✖ 18
3. ✖ 108
4. ✔ 22

Question Number : 28 Question Id : 54592724874 Question Type : MCQ Option Shuffling : Yes
Correct Marks : 1 Wrong Marks : 0.25

In the question given below, there is a statement followed by two conclusions. You have to take the given statement to be true even if they seem to be at variance with commonly known facts and then decide which of the given conclusion logically follow(s) from the given statements.

Statements:

$$I = H > C \geq N \leq E = S$$

Conclusions:

I. $I > C$

II. $C \geq S$

Options :

1. * Neither conclusion I nor conclusion II is true
2. * Either conclusion I or II is true
3. * Only conclusion II is true
4. ✓ Only conclusion I is true

Question Number : 28 Question Id : 54592724874 Question Type : MCQ Option Shuffling : Yes

Correct Marks : 1 Wrong Marks : 0.25

नीचे दिए गए प्रश्न में, एक कथन के बाद दो निष्कर्ष हैं। आपको दिए गए कथन को सत्य मानना है, भले ही वे आम तौर पर ज्ञात तथ्यों के साथ विचरण करते हों और फिर तय करें कि दिए गए कथन में से कौन सा निष्कर्ष तार्किक रूप से अनुसरण करता है।

कथन:

$$I = H > C \geq N \leq E = S$$

निष्कर्ष:

I. $I > C$

II. $C \geq S$

Options :

1. * न तो निष्कर्ष I और न ही निष्कर्ष II सत्य है

2. ✖ या तो निष्कर्ष । या ॥ सत्य है

3. ✖ केवल निष्कर्ष ॥ सत्य है

4. ✔ केवल निष्कर्ष । सत्य है

Question Number : 29 Question Id : 54592724875 Question Type : MCQ Option Shuffling : Yes
Correct Marks : 1 Wrong Marks : 0.25

In the following question, select the missing number from the given responses.

4	5	10
36	49	?
2	2	2

Options :

1. ✔ 144

2. ✖ 55

3. ✖ 100

4. ✖ 64

Question Number : 29 Question Id : 54592724875 Question Type : MCQ Option Shuffling : Yes
Correct Marks : 1 Wrong Marks : 0.25

निम्नलिखित प्रश्न में, दिए गए प्रतिक्रियाओं में से लुप्त संख्या का चयन करें।

4	5	10
36	49	?
2	2	2

Options :

1. ✔ 144

2. ✖ 55

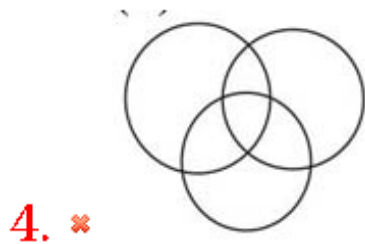
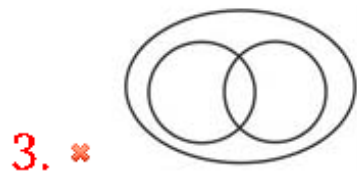

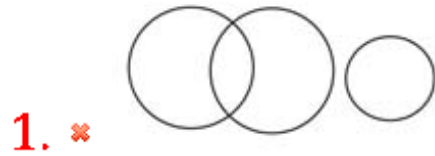
3. ✖ 100

4. ✖ 64

Question Number : 30 Question Id : 54592724876 Question Type : MCQ Option Shuffling : Yes
Correct Marks : 1 Wrong Marks : 0.25

Which of the following diagrams best represents a relationship among Monkey, Eagle and Mammal?

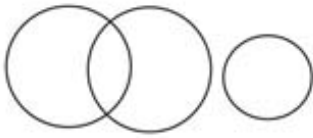
Options :



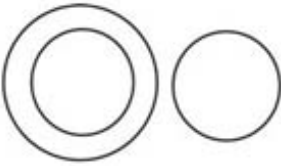
Question Number : 30 Question Id : 54592724876 Question Type : MCQ Option Shuffling : Yes
Correct Marks : 1 Wrong Marks : 0.25

निम्नलिखित में से कौन सा चित्र बंदर, बाज़ और स्तनपायी के बीच संबंध का प्रतिनिधित्व करता है?

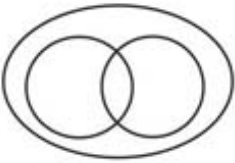
Options :



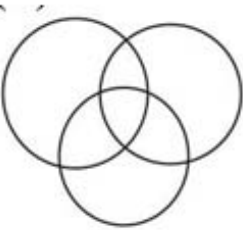
1. ✘



2. ✔



3. ✘

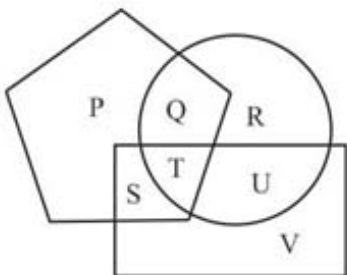


4. ✘

Question Number : 31 Question Id : 54592724877 Question Type : MCQ Option Shuffling : Yes

Correct Marks : 1 Wrong Marks : 0.25

In the given figure, the circle represents Chemist, rectangle represents Police officer and pentagon represents Author. Which set of letters represents Chemist who is Author but not Police officer?



Options :

1. ✖ S

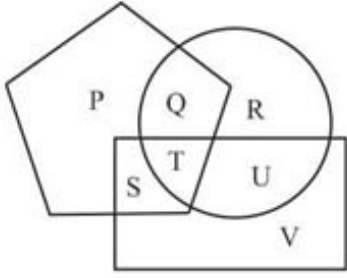
2. ✔ Q

3. ✖ T

4. ✖ U

Question Number : 31 Question Id : 54592724877 Question Type : MCQ Option Shuffling : Yes
Correct Marks : 1 Wrong Marks : 0.25

दिए गए आकृति में, वृत्त, रसायनज्ञ का प्रतिनिधित्व करता है, आयत पुलिस अधिकारी का प्रतिनिधित्व करता है और पंचभुज लेखक का प्रतिनिधित्व करता है, कौन सा अक्षर रसायनज्ञ का प्रतिनिधित्व करता है जो कि लेखक है लेकिन पुलिस अधिकारी नहीं है?



Options :

1. ✖ S

2. ✔ Q

3. ✖ T

4. ✖ U

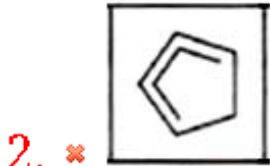
Question Number : 32 Question Id : 54592724878 Question Type : MCQ Option Shuffling : Yes
Correct Marks : 1 Wrong Marks : 0.25

A set a two figures forming the problem figure and four answer figures are given. Select a answer figure which possess the same characteristic.

Problem Figures



Options :

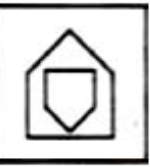


प्रश्न में, दो चित्र प्रश्न आकृति में और चार उत्तर-आकृति दिए गए हैं।
उस उत्तर आकृति का चयन करें जिसमें समान विशेषता हो।

प्रश्न आकृति



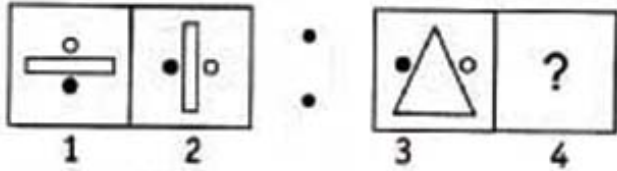
Options :



Question Number : 33 Question Id : 54592724879 Question Type : MCQ Option Shuffling : Yes
Correct Marks : 1 Wrong Marks : 0.25

The second figure in the first unit of the problem figures bears a certain relationship to the first figure. You have to select that figure from the set of answer figures which would come in the place of question mark (?)

Problem Figures



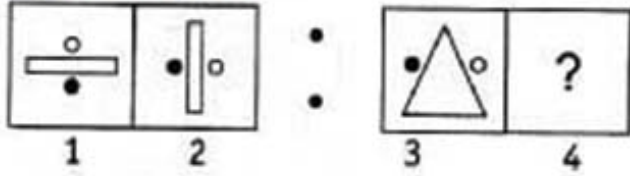
Options :



Question Number : 33 Question Id : 54592724879 Question Type : MCQ Option Shuffling : Yes
 Correct Marks : 1 Wrong Marks : 0.25

प्रश्न आकृति के पहले सेट की दूसरी आकृति, पहली आकृति से एक निश्चित सम्बन्ध रखती है। आपको उत्तर आकृति के सेट से उस आकृति का चयन करना होगा जो प्रश्न चिह्न (?) के स्थान पर आएगा।

प्रश्न आकृति



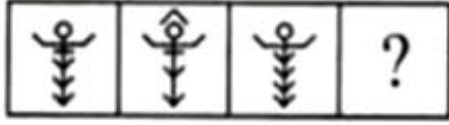
Options :



Question Number : 34 Question Id : 54592724880 Question Type : MCQ Option Shuffling : Yes
 Correct Marks : 1 Wrong Marks : 0.25

Choose an appropriate figure from the four numbered figures for the place of the questions mark (?).

Problem Figures:



(A) (B) (C) (D)

Options :



Question Number : 34 Question Id : 54592724880 Question Type : MCQ Option Shuffling : Yes

Correct Marks : 1 Wrong Marks : 0.25

प्रश्न चिह्न (?) के स्थान पर उत्तर आकृति के रूप में एक उचित आकृति चुनें।

प्रश्न आकृति



(A) (B) (C) (D)

Options :

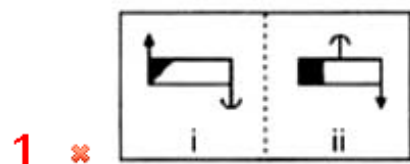


Question Number : 35 Question Id : 54592724881 Question Type : MCQ Option Shuffling : Yes

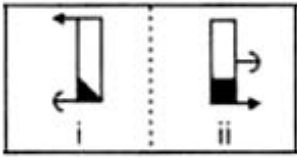
Correct Marks : 1 Wrong Marks : 0.25

In the following questions, element (ii) is related to element (i) in a particular way in four pairs of figures. Find out the pair of figures in which the element (ii) is not related to element (i).

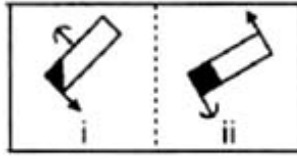
Options :



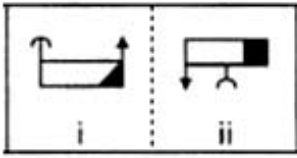
2. ✘



3. ✘



4. ✔



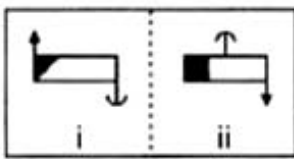
Question Number : 35 Question Id : 54592724881 Question Type : MCQ Option Shuffling : Yes

Correct Marks : 1 Wrong Marks : 0.25

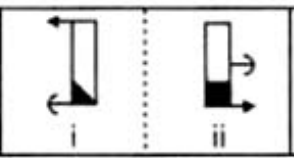
निम्नलिखित प्रश्नों में, आकृति के चारो भाग में तत्व (ii) तत्व (i) से एक निश्चित प्रकार से संबंधित है। उन आकृति जोड़ो का पता लगाएं जिनमे तत्व (ii), तत्व (i) से संबंधित नहीं है।

Options :

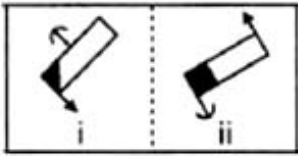
1. ✘



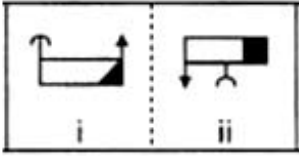
2. ✘



3. ✘



4. ✔



Question Number : 36 Question Id : 54592724882 Question Type : MCQ Option Shuffling : Yes
Correct Marks : 1 Wrong Marks : 0.25

Choose the correct water image from the given alternatives.

Question Figure



Options :

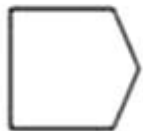
1. ✘



2. ✔



3. ✘



4. ✘



Question Number : 36 Question Id : 54592724882 Question Type : MCQ Option Shuffling : Yes
Correct Marks : 1 Wrong Marks : 0.25

दिए गए विकल्पों में से सही आकृति जल प्रतिबिम्ब वाली आकृति ज्ञात कीजिए।

प्रश्न आकृति



Options :

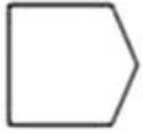
1. ✘



2. ✔



3. ✘



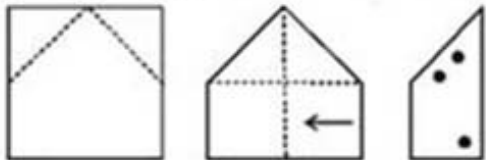
4. ✘



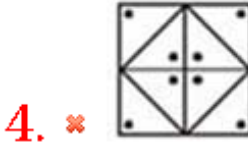
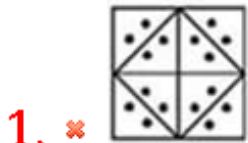
Question Number : 37 Question Id : 54592724883 Question Type : MCQ Option Shuffling : Yes
Correct Marks : 1 Wrong Marks : 0.25

In each of the following questions a piece of paper is folded in the manner shown in the question figure(s). Select the figure out of the answer choices showing the unfolded pattern after the punches (cut).

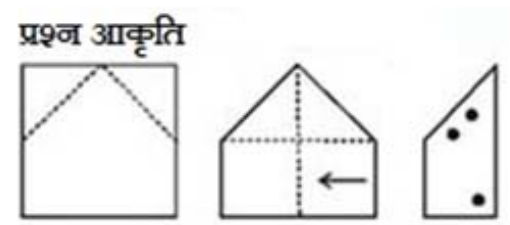
Question Figures



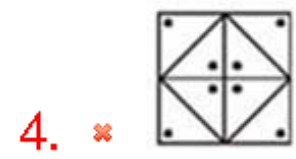
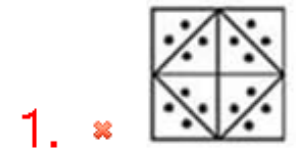
Options :



निम्नलिखित प्रश्न में एक कागज के टुकड़े को प्रश्न आकृति में दर्शाए गए तरीके से मोड़ा गया है। कट के बाद प्राप्त पैटर्न को दर्शाने वाले उत्तर विकल्पों में से आकृति का चयन करें।

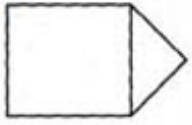


Options :

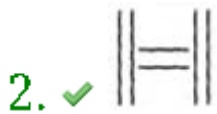


Find out which of the figure (A), (B), (C), (D) can be formed from the pieces given in fig. (X).

Question figures



Options :

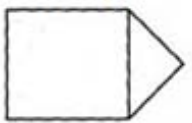


Question Number : 38 Question Id : 54592724884 Question Type : MCQ Option Shuffling : Yes

Correct Marks : 1 Wrong Marks : 0.25

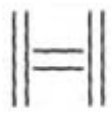
(A), (B), (C), (D) में से कौन सी आकृति, आकृति (X) से बनार्यी जा सकती हैं?

प्रश्न आकृति



Options :



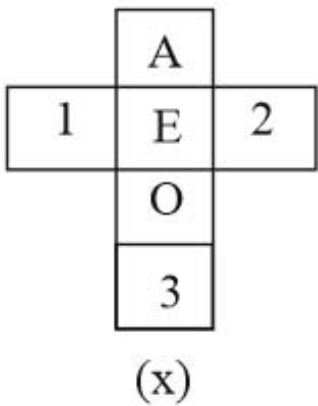
2. ✓ 

3. ✗ 

4. ✗ 

Question Number : 39 Question Id : 54592724885 Question Type : MCQ Option Shuffling : Yes
Correct Marks : 1 Wrong Marks : 0.25

In the following question an unfolded dice is given. From the given alternatives which of the following will be opposite of 3?



Options :

1. ✓ E

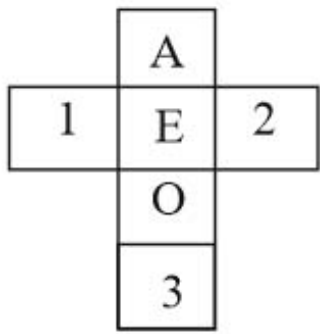
2. ✗ O

3. ✗ A

4. ✗ 1

Question Number : 39 Question Id : 54592724885 Question Type : MCQ Option Shuffling : Yes
Correct Marks : 1 Wrong Marks : 0.25

नीचे दिए गए प्रश्न में, एक खुला पासा दिया गया है। विकल्पों से देखकर ज्ञात कीजिए कि कौन सा 3 के विपरीत होगा?



(x)

Options :

1. ✓ E

2. ✗ O

3. ✗ A

4. ✗ 1

Question Number : 40 Question Id : 54592724886 Question Type : MCQ Option Shuffling : Yes

Correct Marks : 1 Wrong Marks : 0.25

How many times will a solid cube of 4 cm side be cut to obtain smaller cubes of 2 cm side?

Options :

1. ✗ 2

2. ✓ 3

3. ✗ 5

4. ✗ 7

Question Number : 40 Question Id : 54592724886 Question Type : MCQ Option Shuffling : Yes

Correct Marks : 1 Wrong Marks : 0.25

2 सेमी भुजा के छोटे घन को प्राप्त करने के लिए 4 सेमी भुजा का एक ठोस घन कितनी बार काटा जाएगा?

Options :

1. ✖ 2

2. ✔ 3

3. ✖ 5

4. ✖ 7

General Awareness1

Group Number :	3
Group Id :	5459271233
Group Maximum Duration :	0
Group Minimum Duration :	0
Show Attended Group? :	No
Edit Attended Group? :	No
Break time:	0
Group Marks:	20
Is this Group for Examiner?:	No
Revisit allowed for group Instructions? :	Yes
Maximum Instruction Time:	0
Minimum Instruction Time:	0

General Awareness1

Section Id :	5459271233
Section Number :	1
Section type :	Online
Mandatory or Optional:	Mandatory
Number of Questions:	20
Number of Questions to be attempted:	20
Section Marks:	20

Sub-Section Number:	1
Sub-Section Id:	5459271479
Question Shuffling Allowed :	Yes

Question Number : 41 Question Id : 54592724887 Question Type : MCQ Option Shuffling : Yes
Correct Marks : 1 Wrong Marks : 0.25

The Tamasha is a folk-dance of the state of _____.

Options :

1. ✖ Rajasthan

2. ✓ Maharashtra

3. ✘ Madhya Pradesh

4. ✘ Chhattisgarh

Question Number : 41 Question Id : 54592724887 Question Type : MCQ Option Shuffling : Yes

Correct Marks : 1 Wrong Marks : 0.25

तमाशा किस राज्य का लोक-नृत्य है?

Options :

1. ✘ राजस्थान

2. ✓ महाराष्ट्र

3. ✘ मध्य प्रदेश

4. ✘ छत्तीसगढ़

Question Number : 42 Question Id : 54592724888 Question Type : MCQ Option Shuffling : Yes

Correct Marks : 1 Wrong Marks : 0.25

Which of the following regional music is popular in Uttar pradesh?

Options :

1. ✘ Only Laman and Hori

2. ✓ Only Kajri and Sohar

3. ✘ Only Laman and Powda

4. ✘ Only Hori and Powada

Question Number : 42 Question Id : 54592724888 Question Type : MCQ Option Shuffling : Yes

Correct Marks : 1 Wrong Marks : 0.25

निम्नलिखित में से कौनसा क्षेत्रीय संगीत उत्तर प्रदेश में लोकप्रिय है?

Options :

1. ✘ केवल लमन और होरी

2. ✓ केवल कजरी और सोहर

3. ✘ केवल लमन और पावड़ा

4. * केवल होरी और पावड़ा

Question Number : 43 Question Id : 54592724889 Question Type : MCQ Option Shuffling : Yes
Correct Marks : 1 Wrong Marks : 0.25

Choose the incorrect statement about the famous festival "Jallikattu".

Options :

1. * It is organized in Tamil Nadu
2. * It is a sort of a bull-fight
3. * It is a part of the Pongal celebrations
4. ✓ Presently it has been banned after Supreme Court intervention

Question Number : 43 Question Id : 54592724889 Question Type : MCQ Option Shuffling : Yes
Correct Marks : 1 Wrong Marks : 0.25

प्रसिद्ध उत्सव "जल्लीकट्टू" के बारे में गलत कथन चुनें।

Options :

1. * यह तमिलनाडु में आयोजित किया जाता है
2. * यह एक तरह की सांडों की लड़ाई है
3. * यह पोंगल समारोह का एक हिस्सा है
4. ✓ वर्तमान में सर्वोच्च न्यायालय के हस्तक्षेप के बाद इस पर प्रतिबंध लगा दिया गया है

Question Number : 44 Question Id : 54592724890 Question Type : MCQ Option Shuffling : Yes
Correct Marks : 1 Wrong Marks : 0.25

Out of the following monuments choose the odd one out:

Options :

1. ✓ Sikandra Fort
2. * Mehrangarh Fort
3. * Hawa Mahal
4. * City Palace, Udaipur

Question Number : 44 Question Id : 54592724890 Question Type : MCQ Option Shuffling : Yes

Correct Marks : 1 Wrong Marks : 0.25

निम्नलिखित स्मारकों में से विषम को चुनिए।

Options :

1. ✓ सिकंदरा का किला
2. ✗ मेहरानगढ़ का किला
3. ✗ हवा महल
4. ✗ सिटी पैलेस, उदयपुर

Question Number : 45 Question Id : 54592724891 Question Type : MCQ Option Shuffling : Yes

Correct Marks : 1 Wrong Marks : 0.25

In which year was the headquarters of the Reserve Bank of India permanently moved to Mumbai?

Options :

1. ✗ 1935
2. ✗ 1936
3. ✓ 1937
4. ✗ 1938

Question Number : 45 Question Id : 54592724891 Question Type : MCQ Option Shuffling : Yes

Correct Marks : 1 Wrong Marks : 0.25

भारतीय रिज़र्व बैंक का मुख्यालय किस वर्ष स्थायी रूप से मुंबई में स्थानांतरित किया गया था?

Options :

1. ✗ 1935
2. ✗ 1936
3. ✓ 1937
4. ✗ 1938

Question Number : 46 Question Id : 54592724892 Question Type : MCQ Option Shuffling : Yes

Correct Marks : 1 Wrong Marks : 0.25

Consider the following economic activities and identify the ones that belong to the secondary sector?

Options :

1. ✓ Weaving cloth and making sugar
2. ✘ Mining and dairy
3. ✘ Transport and mining
4. ✘ Making furniture and Horticulture

Question Number : 46 Question Id : 54592724892 Question Type : MCQ Option Shuffling : Yes

Correct Marks : 1 Wrong Marks : 0.25

निम्नलिखित आर्थिक गतिविधियों पर विचार करें और उन गतिविधियों की पहचान करें जो आर्थिक कार्यों के द्वितीयक क्षेत्रक से संबंधित हैं?

Options :

1. ✓ कपड़ा बुनना और चीनी तैयार करना
2. ✘ खनन और डेयरी
3. ✘ परिवहन और खनन
4. ✘ फर्नीचर बनाना और बागवानी

Question Number : 47 Question Id : 54592724893 Question Type : MCQ Option Shuffling : Yes

Correct Marks : 1 Wrong Marks : 0.25

Which of the following articles are kept in the Fair Price Shops of India?

Options :

1. ✓ Only Rice and Kerosene
2. ✘ Only Kerosene and Tea leaves
3. ✘ Only Tea leaves and Rice
4. ✘ Rice, Kerosene and Tea leaves

Question Number : 47 Question Id : 54592724893 Question Type : MCQ Option Shuffling : Yes

Correct Marks : 1 Wrong Marks : 0.25

निम्नलिखित में से कौन सी वस्तुएं भारत के उचित दर वाली दुकानों में रखी जाती हैं?

Options :

1. ✓ केवल चावल और मिट्टी का तेल
2. ✖ केवल मिट्टी का तेल और चाय पत्ती
3. ✖ केवल चाय पत्ती और चावल
4. ✖ चावल , मिट्टी का तेल और चाय पत्ती

Question Number : 48 Question Id : 54592724894 Question Type : MCQ Option Shuffling : Yes

Correct Marks : 1 Wrong Marks : 0.25

Which of the following technological applications do not use the phenomenon of total internal reflection?

Options :

1. ✖ Diamonds
2. ✖ Periscopes
3. ✖ Optical fibres
4. ✓ Car wind-shields

Question Number : 48 Question Id : 54592724894 Question Type : MCQ Option Shuffling : Yes

Correct Marks : 1 Wrong Marks : 0.25

निम्नलिखित में से कौन सा प्रौद्योगिकीय अनुप्रयोग कुल आंतरिक परावर्तन का उपयोग नहीं करता है?

Options :

1. ✖ हीरा
2. ✖ पेरिस्कोप
3. ✖ प्रकाशिक तंतु
4. ✓ गाड़ी की विंड-शील्ड

Question Number : 49 Question Id : 54592724895 Question Type : MCQ Option Shuffling : Yes
Correct Marks : 1 Wrong Marks : 0.25

Out of the following, choose the sources of Vitamin C?

Options :

1. ✖ Wheat, Liver, Rice
2. ✔ Guava, Lemon, Green Chilli
3. ✖ Liver, Egg, Fish
4. ✖ Papaya, Mango, Carrot

Question Number : 49 Question Id : 54592724895 Question Type : MCQ Option Shuffling : Yes
Correct Marks : 1 Wrong Marks : 0.25

निम्नलिखित में से विटामिन सी के स्रोत चुने?

Options :

1. ✖ गेहूं, यकृत, चावल
2. ✔ अमरुद, नींबू, मिर्च
3. ✖ यकृत, अंडे, मछली
4. ✖ पपीता, आम, गाजर

Question Number : 50 Question Id : 54592724896 Question Type : MCQ Option Shuffling : Yes
Correct Marks : 1 Wrong Marks : 0.25

Which of the following is the main function of phloem in plants?

Options :

1. ✖ They absorb water and minerals from the soil
2. ✔ They transport food materials, usually from leaves to other parts of the plant
3. ✖ They convert the sunlight and water into glucose
4. ✖ They fix nitrogen obtained from the soil

Question Number : 50 Question Id : 54592724896 Question Type : MCQ Option Shuffling : Yes
Correct Marks : 1 Wrong Marks : 0.25

निम्नलिखित में से पौधों में फ्लोएम का मुख्य कार्य कौन सा है?

Options :

1. ✖ वे मिट्टी से पानी और खनिज अवशोषित करते हैं
2. ✔ वे भोजन को पत्तियों से पौधे के अन्य भागों में पहुंचाते हैं
3. ✖ वे सूर्य के प्रकाश और पानी को ग्लूकोज में बदलते हैं
4. ✖ वे मिट्टी से प्राप्त नाइट्रोजन का नियतन करते हैं

Question Number : 51 Question Id : 54592724897 Question Type : MCQ Option Shuffling : Yes

Correct Marks : 1 Wrong Marks : 0.25

Identify the environmental processes where carbon-di-oxide is getting 'fixed'?

Options :

1. ✖ Respiration of human beings
2. ✔ Marine animals making their own shells
3. ✖ Burning of candles
4. ✖ Melting of glaciers

Question Number : 51 Question Id : 54592724897 Question Type : MCQ Option Shuffling : Yes

Correct Marks : 1 Wrong Marks : 0.25

पर्यावरणीय विधि को पहचाने जिस में कार्बन डाइऑक्साइड 'स्थिर' हो रही है?

Options :

1. ✖ मनुष्य के श्वसन
2. ✔ समुद्री जंतु स्वयं का कवच बनाते हैं
3. ✖ मोमबत्ती जलाना
4. ✖ हिमनद का पिघलना

Question Number : 52 Question Id : 54592724898 Question Type : MCQ Option Shuffling : Yes

Correct Marks : 1 Wrong Marks : 0.25

Which of the following pathogens can get introduced to the environment by the human excreta?

Options :

1. * Only Coliforms and tapeworm eggs
2. * Only Salmonellae
3. * Only Tapeworm eggs and Salmonellae
4. ✓ Coliforms, Tapeworm eggs and Salmonellae

Question Number : 52 Question Id : 54592724898 Question Type : MCQ Option Shuffling : Yes
Correct Marks : 1 Wrong Marks : 0.25

मानव मलमूत्र द्वारा निम्नलिखित में से कौन से रोगजनक पर्यावरण में आ जाते हैं?

Options :

1. * केवल कोलिफॉर्म और फीता कृमि के अंडे
2. * केवल सेल्मनिल
3. * केवल फीता कृमि के अंडे और सेल्मनिल
4. ✓ कोलिफॉर्म, फीता कृमि के अंडे और सेल्मनिल

Question Number : 53 Question Id : 54592724899 Question Type : MCQ Option Shuffling : Yes
Correct Marks : 1 Wrong Marks : 0.25

The disease Arsenicosis and Fluorosis is mainly caused by:

Options :

1. ✓ Contamination of drinking water
2. * Air pollution
3. * Human physical contacts
4. * Bite by rabid animals

Question Number : 53 Question Id : 54592724899 Question Type : MCQ Option Shuffling : Yes
Correct Marks : 1 Wrong Marks : 0.25

आर्सेनिकोसिस और फ्लोरोसिस रोग मुख्य रूप से _____ के कारण होते हैं।

Options :

1. ✓ पीने के पानी का संदूषण

2. * वायु प्रदूषण
3. * मानव शारीरिक संपर्क
4. * विक्षिप्त जानवरों द्वारा काटने

Question Number : 54 Question Id : 54592724900 Question Type : MCQ Option Shuffling : Yes
Correct Marks : 1 Wrong Marks : 0.25

Entamoeba histolytica is a (i)____ parasite in the (ii)____ of human which causes amoebiasis.

Options :

1. * (i) Bacterial (ii) Liver
2. ✓ (i) Protozoan (ii) Large Intestine
3. * (i) Bacterial (ii) Small Intestine
4. * (i) Protozoan (ii) Small Intestine

Question Number : 54 Question Id : 54592724900 Question Type : MCQ Option Shuffling : Yes
Correct Marks : 1 Wrong Marks : 0.25

एंटांमीबा हिस्टोलिटिका नामक (i)____ परजीवी मानव की (ii)____ में पाए जाते हैं, जिससे अमीबता होता है।

Options :

1. * (i) जीवाणुज (ii) यकृत
2. ✓ (i) प्रोटोजोन (ii) वृहत् आंत्र
3. * (i) जीवाणुज (ii) छोटी आंत्र
4. * (i) प्रोटोजोन (ii) छोटी आंत्र

Question Number : 55 Question Id : 54592724901 Question Type : MCQ Option Shuffling : Yes
Correct Marks : 1 Wrong Marks : 0.25

Which of the following will come under Innate Immunity?

Options :

1. ✓ Interferons
2. * B-Lymphocytes

3. * T-Lymphocytes

4. * A - Lymphocytes

Question Number : 55 Question Id : 54592724901 Question Type : MCQ Option Shuffling : Yes

Correct Marks : 1 Wrong Marks : 0.25

निम्नलिखित में से कौनसा सहज प्रतिरक्षा (इनेट इम्युनिटी) के अंतर्गत आयेगा?

Options :

1. ✓ इंटरफेरॉन

2. * बी-लसीकाणु

3. * टी-लसीकाणु

4. * ए-लसीकाणु

Question Number : 56 Question Id : 54592724902 Question Type : MCQ Option Shuffling : Yes

Correct Marks : 1 Wrong Marks : 0.25

Mark the correct statement regarding Indus river.

Options :

1. * It is not a Himalayan river

2. ✓ A treaty was signed about the water-usage of this river in 1960

3. * A treaty was signed about the water-usage of this river in 1985

4. * It is originated from Maharashtra

Question Number : 56 Question Id : 54592724902 Question Type : MCQ Option Shuffling : Yes

Correct Marks : 1 Wrong Marks : 0.25

सिंधु नदी के संबंध में सही कथन को चिह्नित करें।

Options :

1. * यह एक हिमालयी नदी नहीं है

2. ✓ 1960 में इस नदी के जल-उपयोग के विषय में एक संधि पर हस्ताक्षर किए गए थे

3. ✖ 1985 में इस नदी के जल-उपयोग के विषय में एक संधि पर हस्ताक्षर किए गए थे

4. ✖ इसका उद्गम महाराष्ट्र से होता है

Question Number : 57 Question Id : 54592724903 Question Type : MCQ Option Shuffling : Yes
Correct Marks : 1 Wrong Marks : 0.25

Which of the following pairs are both peaks of the Western Ghats?

Options :

1. ✖ Anai Mudi and Mahendragiri

2. ✖ Doda Betta and Javady Hill

3. ✓ Anai Mudi and Doda Betta

4. ✖ Shevroy Hill and the Javadi Hill

Question Number : 57 Question Id : 54592724903 Question Type : MCQ Option Shuffling : Yes
Correct Marks : 1 Wrong Marks : 0.25

निम्नलिखित में से कौन सी जोड़ी पश्चिमी घाट की चोटियाँ हैं?

Options :

1. ✖ अनई मुडी और महेंद्रगिरि

2. ✖ डोडा बेट्टा और जावाड़ी पहाड़ी

3. ✓ अनाई मुडी और डोडा बेट्टा

4. ✖ शेवरॉय पहाड़ी और जावाड़ी पहाड़ी

Question Number : 58 Question Id : 54592724904 Question Type : MCQ Option Shuffling : Yes
Correct Marks : 1 Wrong Marks : 0.25

In which ocean does the Oyashio current appear?

Options :

1. ✖ Atlantic Ocean

2. * Arctic Ocean

3. ✓ Pacific Ocean

4. * Indian Ocean

Question Number : 58 Question Id : 54592724904 Question Type : MCQ Option Shuffling : Yes
Correct Marks : 1 Wrong Marks : 0.25

ओयाशियो जलधारा किस महासागर में बहती है?

Options :

1. * अटलांटिक महासागर

2. * आर्कटिक महासागर

3. ✓ प्रशांत महासागर

4. * हिंद महासागर

Question Number : 59 Question Id : 54592724905 Question Type : MCQ Option Shuffling : Yes
Correct Marks : 1 Wrong Marks : 0.25

Which of the following are the factors affecting soil formation?

Options :

1. * Only time and climate

2. * Only climate and micro-organism

3. * Only time and Micro-organism

4. ✓ Time, Climate and micro - organism

Question Number : 59 Question Id : 54592724905 Question Type : MCQ Option Shuffling : Yes
Correct Marks : 1 Wrong Marks : 0.25

निम्नलिखित में से मृदा निर्माण को प्रभावित करने वाले कारक कौन-कौनसे हैं?

Options :

1. * केवल समय और जलवायु

2. * केवल जलवायु और सूक्ष्म जीव

3. ✖ केवल समय और सूक्ष्म जीव

4. ✔ समय, जलवायु और सूक्ष्म जीव

Question Number : 60 Question Id : 54592724906 Question Type : MCQ Option Shuffling : Yes

Correct Marks : 1 Wrong Marks : 0.25

If you are at a place, which has high temperature, (above 25°C) and high humidity with annual rainfall above 100 cm, then which of the following crops can you grow?

Options :

1. ✖ Cotton

2. ✔ Rice

3. ✖ Bajra

4. ✖ Wheat

Question Number : 60 Question Id : 54592724906 Question Type : MCQ Option Shuffling : Yes

Correct Marks : 1 Wrong Marks : 0.25

यदि आप किसी ऐसे स्थान पर हैं, जिसका उच्च तापमान है, (25°C से ज्यादा) और 100 सेमी से अधिक वार्षिक वर्षा के साथ उच्च आर्द्रता है, तो आप निम्नलिखित में से किस फसल को उगा सकते हैं?

Options :

1. ✖ कपास

2. ✔ चावल

3. ✖ बाजरा

4. ✖ गेहूँ

General Awareness2

Group Number :

4

Group Id :

5459271234

Group Maximum Duration :

0

Group Minimum Duration :

0

Show Attended Group? :

No

Edit Attended Group? :	No
Break time:	0
Group Marks:	20
Is this Group for Examiner?:	No
Revisit allowed for group Instructions? :	Yes
Maximum Instruction Time:	0
Minimum Instruction Time:	0

General Awareness2

Section Id :	5459271234
Section Number :	1
Section type :	Online
Mandatory or Optional:	Mandatory
Number of Questions:	20
Number of Questions to be attempted:	20
Section Marks:	20

Sub-Section Number:	1
Sub-Section Id:	5459271480
Question Shuffling Allowed :	Yes

Question Number : 61 Question Id : 54592724907 Question Type : MCQ Option Shuffling : Yes
Correct Marks : 1 Wrong Marks : 0.25

Which of the following statements is incorrect?

- Options :
1. ✓ Sri Lanka is separated from India by the Ten Degree Channel
 2. * Maldives Islands are situated to the south of the Lakshadweep Islands
 3. * Arunachal Pradesh shares its borders with Myanmar
 4. * India has the third largest international land border in the world

Question Number : 61 Question Id : 54592724907 Question Type : MCQ Option Shuffling : Yes
Correct Marks : 1 Wrong Marks : 0.25

निम्नलिखित में से कौन सा कथन गलत है?

- Options :
1. ✓ दस डिग्री चैनल द्वारा श्रीलंका ,भारत से अलग है

2. * मालदीव द्वीप लक्षद्वीप द्वीप समूह के दक्षिण में स्थित हैं
3. * अरुणाचल प्रदेश म्यांमार के साथ अपनी सीमाएँ साझा करता है
4. * भारत की विश्व में तीसरी सबसे बड़ी अंतर्राष्ट्रीय सीमा है

Question Number : 62 Question Id : 54592724908 Question Type : MCQ Option Shuffling : Yes
Correct Marks : 1 Wrong Marks : 0.25

Mark the correct match of mahajanapadas of sixth century BC with their capitals.

Options :

1. * Magadha - Kushinagara
2. ✓ Avanti - Ujjayini
3. * Gandhara - Rajgraha
4. * Malla - Pushkalavati

Question Number : 62 Question Id : 54592724908 Question Type : MCQ Option Shuffling : Yes
Correct Marks : 1 Wrong Marks : 0.25

छठी शताब्दी ईसा पूर्व के महाजनपदों का उनकी राजधानियों के साथ, सही मिलान को चिह्नित करें।

Options :

1. * मगध - कुशीनगर
2. ✓ अवन्ति - उज्जयिनी
3. * गांधार - राजगृह
4. * मल्ल - पुष्कलवाती

Question Number : 63 Question Id : 54592724909 Question Type : MCQ Option Shuffling : Yes
Correct Marks : 1 Wrong Marks : 0.25

Which of the following is not a message of Buddhism?

Options :

1. * The world is transient and constantly changing

2. * The world is soulless and there is nothing permanent or eternal in it

3. * Sorrow is intrinsic to human existence

4. ✓ The entire world is animated; even stones, rocks and water have life

Question Number : 63 Question Id : 54592724909 Question Type : MCQ Option Shuffling : Yes

Correct Marks : 1 Wrong Marks : 0.25

निम्नलिखित में से कौन सा बौद्ध धर्म का संदेश नहीं है?

Options :

1. * दुनिया क्षणिक है और लगातार बदलती जा रही है

2. * संसार अंतः विहीन है और इसमें कुछ भी स्थायी या शाश्वत नहीं है

3. * दुख मानव अस्तित्व के लिए आंतरिक है

4. ✓ पूरा संसार सजीव बनाया हुआ है; यहां तक कि पत्थरों, चट्टानों और पानी में भी जीवन है

Question Number : 64 Question Id : 54592724910 Question Type : MCQ Option Shuffling : Yes

Correct Marks : 1 Wrong Marks : 0.25

In which present day country was Al-Biruni, the famous traveler to India, born?

Options :

1. * Morocco

2. * Iran

3. ✓ Uzbekistan

4. * Egypt

Question Number : 64 Question Id : 54592724910 Question Type : MCQ Option Shuffling : Yes

Correct Marks : 1 Wrong Marks : 0.25

भारत के प्रसिद्ध यात्री, अल-बरूनी का जन्म वर्तमान के किस देश में हुआ था?

Options :

1. ✖ मोरक्को
2. ✖ ईरान
3. ✔ उज्बेकिस्तान
4. ✖ मिस्र

Question Number : 65 Question Id : 54592724911 Question Type : MCQ Option Shuffling : Yes

Correct Marks : 1 Wrong Marks : 0.25

Which of the following statements about the women social reformers of India is incorrect?

Options :

1. ✖ Pandita Ramabai founded a widows' home at Poona to provide shelter to widows who had been treated badly by their husbands' relatives.
2. ✖ Tarabai Shinde published a book, Stripurushtulna, (A Comparison between Women and Men), criticising the social differences between men and women.
3. ✖ Begum Rokeya Sakhawat Hossain started schools for Muslim girls in Patna and Calcutta.
4. ✔ Savitribai Phule worked for the upliftment of the ruined Indian handicraft-industries in Bihar.

Question Number : 65 Question Id : 54592724911 Question Type : MCQ Option Shuffling : Yes

Correct Marks : 1 Wrong Marks : 0.25

भारत की महिला समाज सुधारकों के बारे में निम्नलिखित में से कौन सा कथन गलत है?

Options :

1. * पंडिता रमाबाई ने विधवाओं को आश्रय प्रदान करने के लिए पूना में एक विधवाओं के घर की स्थापना की, जिनके पति के रिश्तेदारों द्वारा उनके साथ बुरा व्यवहार हुआ था।
2. * ताराबाई शिंदे ने पुरुष और महिलाओं के बीच सामाजिक मतभेदों की आलोचना करते हुए, स्त्री पुरुष तुलना, (ए कम्पेरिज़न बिट्वीन वुमेन एंड मेन) नामक पुस्तक प्रकाशित की।
3. * बेगम रोकेया सखावत हुसैन ने पटना और कलकत्ता में मुस्लिम लड़कियों के लिए स्कूल शुरू किए।
4. ✓ सावित्रीबाई फुले ने बिहार में बर्बाद हो रहे भारतीय हस्तशिल्प-उद्योगों के उत्थान के लिए काम किया।

Question Number : 66 Question Id : 54592724912 Question Type : MCQ Option Shuffling : Yes
Correct Marks : 1 Wrong Marks : 0.25

Which of the following Indian National movement chronologically occurred at the latest?

Options :

1. ✓ The British introduced the system of separate electorates for the Muslims for the first time
2. * The Surat Split occurred within the Congress
3. * A group of Muslim landlords and nawabs formed the All India Muslim League at Dacca
4. * Lord Curzon announced the Division of Bengal

Question Number : 66 Question Id : 54592724912 Question Type : MCQ Option Shuffling : Yes
Correct Marks : 1 Wrong Marks : 0.25

निम्नलिखित में से कौन सा भारतीय राष्ट्रीय आंदोलन क्रमानुसार अंत में घटित हुआ?

Options :

1. ✓ अंग्रेजों ने पहली बार मुसलमानों के लिए अलग निर्वाचक मंडल की व्यवस्था शुरू की
2. * सूरत विभाजन कांग्रेस में हुआ था
3. * मुस्लिम जमींदारों और नवाबों के एक समूह ने डक्का में ऑल इंडिया मुस्लिम लीग का गठन किया
4. * लॉर्ड कर्जन ने बंगाल विभाजन की घोषणा की

Question Number : 67 Question Id : 54592724913 Question Type : MCQ Option Shuffling : Yes
Correct Marks : 1 Wrong Marks : 0.25

Which of the following was not a reason for the mass participation in the Non-Cooperation Movement?

Options :

1. * The Jallianwala Bagh Massacre
2. * The demand for Swaraj
3. * The Khilafat wrongs
4. ✓ The Chauri Chaura incident

Question Number : 67 Question Id : 54592724913 Question Type : MCQ Option Shuffling : Yes
Correct Marks : 1 Wrong Marks : 0.25

असहयोग आंदोलन में सामूहिक भागीदारी के लिए निम्नलिखित में से कौन सा कारण नहीं था?

Options :

1. * जलियांवाला बाग नरसंहार
2. * स्वराज की माँग
3. * खिलाफत के साथ अन्याय
4. ✓ चौरी चौरा की घटना

Question Number : 68 Question Id : 54592724914 Question Type : MCQ Option Shuffling : Yes
Correct Marks : 1 Wrong Marks : 0.25

Who has been recently appointed as the RAW (Research and Analysis Wing) chief in June 2019?

Options :

1. * Anil Dhasmana
2. * Arvind Kumar
3. * Rajiv Jain
4. ✓ Samant Goel

Question Number : 68 Question Id : 54592724914 Question Type : MCQ Option Shuffling : Yes

Correct Marks : 1 Wrong Marks : 0.25

हाल ही में जून 2019 में राँ (रिसर्च एंड एनालिसिस विंग) के प्रमुख के रूप में किसे नियुक्त किया गया है?

Options :

1. * अनिल धस्माना
2. * अरविंद कुमार
3. * राजीव जैन
4. ✓ सामंत गोयल

Question Number : 69 Question Id : 54592724915 Question Type : MCQ Option Shuffling : Yes

Correct Marks : 1 Wrong Marks : 0.25

The Oscars 2019 was the _____ edition of the awards-ceremony.

Options :

1. * 88th
2. * 89th
3. * 90th
4. ✓ 91st

Question Number : 69 Question Id : 54592724915 Question Type : MCQ Option Shuffling : Yes

Correct Marks : 1 Wrong Marks : 0.25

ऑस्कर 2019, पुरस्कार-समारोह का _____ संस्करण था।

Options :

1. ✖ 88 वां
2. ✖ 89 वाँ
3. ✖ 90 वाँ
4. ✔ 91 वाँ

Question Number : 70 Question Id : 54592724916 Question Type : MCQ Option Shuffling : Yes

Correct Marks : 1 Wrong Marks : 0.25

An Indian author was born in Varanasi and is famous for his modern Hindi-Urdu literature. His notable works are Godaan, Bazaar-e-Husn, Karmabhoomi, Shatranj ke khiladi, Gaban etc. What was his pen-name and original name?

Options :

1. ✖ Munshi Premchand, Dharamveer Bharati
2. ✖ Dinkar, Ramdhari Singh
3. ✔ Munshi Premchand, Dhanpat Rai Shrivastava
4. ✖ Dinkar, Dharamveer Bharati

Question Number : 70 Question Id : 54592724916 Question Type : MCQ Option Shuffling : Yes

Correct Marks : 1 Wrong Marks : 0.25

एक भारतीय लेखक का जन्म वाराणसी में हुआ था और वह अपने आधुनिक हिंदी-उर्दू साहित्य के लिए प्रसिद्ध हैं। उनकी उल्लेखनीय कृतियाँ हैं गोदान, बाजार-ए-हुस्न, कर्मभूमि, शतरंज के खिलाड़ी, गबन आदि। उनका कलम-नाम और मूल नाम क्या था?

Options :

1. ✖ मुंशी प्रेमचंद, धर्मवीर भारती
2. ✖ दिनकर, रामधारी सिंह
3. ✔ मुंशी प्रेमचंद, धनपत राय श्रीवास्तव
4. ✖ दिनकर, धरमवीर भारती

Question Number : 71 Question Id : 54592724917 Question Type : MCQ Option Shuffling : Yes

Correct Marks : 1 Wrong Marks : 0.25

He is the co-creator of popular fictional characters like Spider-man, Iron Man, Hulk etc. He passed away in November 2018 . Which author is being described in here?

Options :

1. * Jack Kirby
2. * Arthur Conan Doyle
3. ✓ Stan Lee
4. * Herge

Question Number : 71 Question Id : 54592724917 Question Type : MCQ Option Shuffling : Yes

Correct Marks : 1 Wrong Marks : 0.25

वह स्पाइडर-मैन, आयरन-मैन, हल्क आदि लोकप्रिय काल्पनिक पात्रों के सह-निर्माता हैं। नवंबर 2018 में उनका निधन हो गया। यहाँ किस लेखक का वर्णन किया जा रहा है?

Options :

1. * जैक किर्बी
2. * आर्थर कॉनन डॉयल
3. ✓ स्टेन ली
4. * हर्ज

Question Number : 72 Question Id : 54592724918 Question Type : MCQ Option Shuffling : Yes

Correct Marks : 1 Wrong Marks : 0.25

This organization has Gita Gopinath as the Chief Economist. Where is the headquarters of this organization situated?

Options :

1. * New York
2. ✓ Washington DC
3. * Geneva

4. * The Hague

Question Number : 72 Question Id : 54592724918 Question Type : MCQ Option Shuffling : Yes
Correct Marks : 1 Wrong Marks : 0.25

इस संगठन में मुख्य अर्थशास्त्री (चीफ इकोनॉमिस्ट) के पद पर गीता गोपीनाथ हैं। इस संगठन का मुख्यालय कहाँ स्थित है?

Options :

1. * न्यूयॉर्क
2. ✓ वाशिंगटन डीसी
3. * जेनेवा
4. * द हेग

Question Number : 73 Question Id : 54592724919 Question Type : MCQ Option Shuffling : Yes
Correct Marks : 1 Wrong Marks : 0.25

Given below are the pairs of inventions with their inventors. Choose the correct match.

Options :

1. * Light bulb - Alexander Graham Bell
2. * Aeroplane - Thomas Alva Edison
3. * Telephone - The Wright Brothers
4. ✓ James Naismith - Basketball

Question Number : 73 Question Id : 54592724919 Question Type : MCQ Option Shuffling : Yes
Correct Marks : 1 Wrong Marks : 0.25

नीचे दिए गए जोड़े आविष्कार और उनके आविष्कारकों के हैं। सही मिलान चुनें।

Options :

1. * लाइट बल्ब - अलेक्जेंडर ग्राहम बेल
2. * हवाई जहाज - थॉमस अल्वा एडिसन
3. * टेलीफोन - राइट ब्रदर्स

4. ✓ जेम्स नाइस्मिथ - बास्केटबॉल

Question Number : 74 Question Id : 54592724920 Question Type : MCQ Option Shuffling : Yes
Correct Marks : 1 Wrong Marks : 0.25

In the Rajya Sabha every (i)_____ years, (ii)_____ of the total number of members complete their term.

Options :

1. ✓ (i) two (ii) one-third
2. ✗ (i) three (ii) half
3. ✗ (i) two (ii) one-fourth
4. ✗ (i) three (ii) one-third

Question Number : 74 Question Id : 54592724920 Question Type : MCQ Option Shuffling : Yes
Correct Marks : 1 Wrong Marks : 0.25

राज्य सभा में प्रत्येक (i)_____ वर्षों में सदस्यों की कुल संख्या के (ii) _____ संख्यक सदस्य अपना कार्यकाल पूरा कर लेते हैं।

Options :

1. ✓ (i) दो (ii) एक-तिहाई
2. ✗ (i) तीन (ii) आधा
3. ✗ (i) दो (ii) एक-चौथाई
4. ✗ (i) तीन (ii) एक तिहाई

Question Number : 75 Question Id : 54592724921 Question Type : MCQ Option Shuffling : Yes
Correct Marks : 1 Wrong Marks : 0.25

Choose the incorrect statement about the Right To Information Act.

Options :

1. ✗ It was enacted in the year 2005
2. ✗ It is an initiative taken by Department of Personnel and Training, Ministry of Personnel, Public Grievances and Pensions

3. ✓ State Governments don't come under the ambit of this Act

4. ✘ Aruna Roy was an eminent figure responsible for bringing this Act into existence

Question Number : 75 Question Id : 54592724921 Question Type : MCQ Option Shuffling : Yes

Correct Marks : 1 Wrong Marks : 0.25

सूचना का अधिकार अधिनियम के बारे में गलत कथन चुनें।

Options :

1. ✘ इसे वर्ष 2005 में अधिनियमित किया गया था

2. ✘ यह कार्मिक और प्रशिक्षण विभाग, कार्मिक, लोक शिकायत और पेंशन मंत्रालय द्वारा की गई पहल है

3. ✓ राज्य सरकारें इस अधिनियम के दायरे में नहीं आती हैं

4. ✘ अरुणा रॉय का इस अधिनियम को अस्तित्व में लाने में महत्त्वपूर्ण योगदान है

Question Number : 76 Question Id : 54592724922 Question Type : MCQ Option Shuffling : Yes

Correct Marks : 1 Wrong Marks : 0.25

Which of the following Constitutional Amendment Acts deleted the Right to Property from the list of fundamental rights?

Options :

1. ✓ 44th

2. ✘ 42nd

3. ✘ 52nd

4. ✘ 54th

Question Number : 76 Question Id : 54592724922 Question Type : MCQ Option Shuffling : Yes

Correct Marks : 1 Wrong Marks : 0.25

निम्नलिखित में से किस संवैधानिक संशोधन अधिनियम ने संपत्ति के अधिकार को मौलिक अधिकारों की सूची से हटा दिया?

Options :

1. ✓ 44 वाँ

2. ✖ 42 वाँ

3. ✖ 52 वाँ

4. ✖ 54 वाँ

Question Number : 77 Question Id : 54592724923 Question Type : MCQ Option Shuffling : Yes
Correct Marks : 1 Wrong Marks : 0.25

Which of the following statements about the Constituent Assembly is incorrect?

Options :

1. ✖ It had eight major Committees on different subjects

2. ✖ The President of the Constituent Assembly was Dr. Rajendra Prasad and the Chairman of the Drafting Committee was Dr. B.R. Ambedkar

3. ✓ The Constituent Assembly was comprised of people who had identical ideologies and principles

4. ✖ In terms of political parties, the Congress dominated the Assembly occupying as many as eighty-two per cent of the seats in the Assembly after the Partition.

Question Number : 77 Question Id : 54592724923 Question Type : MCQ Option Shuffling : Yes
Correct Marks : 1 Wrong Marks : 0.25

संविधान सभा के बारे में निम्नलिखित में से कौन सा कथन गलत है?

Options :

1. ✖ विभिन्न मुद्दों के लिए आठ मुख्य समितियां थीं

2. ✖ संविधान सभा के अध्यक्ष डॉ. राजेंद्र प्रसाद और प्रारूप समिति के सभापति डॉ. बी.आर. अंबेडकर थे

3. ✓ संविधान सभा में ऐसे लोग उपस्थित थे जिनकी समान सिद्धांत और विचारधाराएं थीं

4. * जहाँ तक राजनीतिक दलों का सवाल है विभाजन के बाद संविधान सभा में काँग्रेस का वर्चस्व था और उसे 82 प्रतिशत सीटें प्राप्त थीं

Question Number : 78 Question Id : 54592724924 Question Type : MCQ Option Shuffling : Yes

Correct Marks : 1 Wrong Marks : 0.25

Which of the following is Dipa Karmakar associated with?

Options :

1. * Archery
2. * Shooting
3. * Badminton
4. ✓ Gymnastics

Question Number : 78 Question Id : 54592724924 Question Type : MCQ Option Shuffling : Yes

Correct Marks : 1 Wrong Marks : 0.25

दीपा कर्मकार निम्नलिखित में से किस खेल के साथ जुड़ी हुई हैं?

Options :

1. * तीरंदाजी
2. * शूटिंग
3. * बैडमिंटन
4. ✓ जिम्नास्टिक

Question Number : 79 Question Id : 54592724925 Question Type : MCQ Option Shuffling : Yes

Correct Marks : 1 Wrong Marks : 0.25

Which of the following term is related to football?

Options :

1. ✓ Back-heel
2. * Raid
3. * Leg Side
4. * Deuce

Question Number : 79 Question Id : 54592724925 Question Type : MCQ Option Shuffling : Yes
Correct Marks : 1 Wrong Marks : 0.25

निम्नलिखित में से कौन सा शब्द फुटबॉल से संबंधित है?

Options :

1. ✓ बैक-हील
2. ✗ रेड
3. ✗ लेग साइड
4. ✗ ड्यूस

Question Number : 80 Question Id : 54592724926 Question Type : MCQ Option Shuffling : Yes
Correct Marks : 1 Wrong Marks : 0.25

Which of the following sports is not correctly matched with its respective sportsmen/sportswomen?

Options :

1. ✗ Tennis – Angelique Kerber
2. ✗ Football – Neymar Jr
3. ✗ Cricket – Meg Lanning
4. ✓ Cycling – Magnus Carlsen

Question Number : 80 Question Id : 54592724926 Question Type : MCQ Option Shuffling : Yes
Correct Marks : 1 Wrong Marks : 0.25

निम्नलिखित में से कौन सा खेल अपने संबंधित खिलाड़ी से सही ढंग से मेल नहीं खाता है?

Options :

1. ✗ टेनिस - एंजेलिक केर्बर
2. ✗ फुटबॉल - नेमार जूनियर
3. ✗ क्रिकेट - मेग लैनिंग
4. ✓ साइकिलिंग - मैग्नुस कार्लसन

Arithmetic Ability1

Group Number :	5
Group Id :	5459271235
Group Maximum Duration :	0
Group Minimum Duration :	0
Show Attended Group? :	No
Edit Attended Group? :	No
Break time:	0
Group Marks:	20
Is this Group for Examiner?:	No
Revisit allowed for group Instructions? :	Yes
Maximum Instruction Time:	0
Minimum Instruction Time:	0

Arithmetic Ability1

Section Id :	5459271235
Section Number :	1
Section type :	Online
Mandatory or Optional:	Mandatory
Number of Questions:	20
Number of Questions to be attempted:	20
Section Marks:	20

Sub-Section Number:	1
Sub-Section Id:	5459271481
Question Shuffling Allowed :	Yes

Question Number : 81 Question Id : 54592724927 Question Type : MCQ Option Shuffling : Yes
Correct Marks : 1 Wrong Marks : 0.25

What should come in place of the question mark (?) in the following question?

$$(3)^8 \times (3)^4 = ?$$

Options :

1. * $(27)^3$

2. ✓ $(729)^2$

3. * $(27)^5$

4. ✖ $(729)^3$

Question Number : 81 Question Id : 54592724927 Question Type : MCQ Option Shuffling : Yes
Correct Marks : 1 Wrong Marks : 0.25

निम्नलिखित प्रश्न में प्रश्नवाचक चिन्ह (?) के स्थान पर क्या आना चाहिए?

$$(3)^8 \times (3)^4 = ?$$

Options :

1. ✖ $(27)^3$

2. ✔ $(729)^2$

3. ✖ $(27)^5$

4. ✖ $(729)^3$

Question Number : 82 Question Id : 54592724928 Question Type : MCQ Option Shuffling : Yes
Correct Marks : 1 Wrong Marks : 0.25

What should come in place of the question mark (?) in the following question?

$$\frac{3.36 - 2.34}{3} \times \frac{2.79 + 4.34 + 4.77}{3.4} = ?$$

Options :

1. ✖ 0.68

2. ✖ 1.02

3. ✔ 1.19

4. ✖ 0.85

Question Number : 82 Question Id : 54592724928 Question Type : MCQ Option Shuffling : Yes
Correct Marks : 1 Wrong Marks : 0.25

निम्नलिखित प्रश्न में प्रश्नवाचक चिन्ह (?) के स्थान पर क्या आना चाहिए?

$$\frac{3.36 - 2.34}{3} \times \frac{2.79 + 4.34 + 4.77}{3.4} = ?$$

Options :

1. ✖ 0.68

2. ✖ 1.02

3. ✔ 1.19

4. ✖ 0.85

Question Number : 83 Question Id : 54592724929 Question Type : MCQ Option Shuffling : Yes
Correct Marks : 1 Wrong Marks : 0.25

What should come in place of the question mark (?) in the following question?

$$\frac{31}{10} \times \frac{3}{10} + \frac{7}{5} \div 20 = ?$$

Options :

1. ✖ 0

2. ✔ 1

3. ✖ 100

4. ✖ $\frac{107}{200}$

Question Number : 83 Question Id : 54592724929 Question Type : MCQ Option Shuffling : Yes
Correct Marks : 1 Wrong Marks : 0.25

निम्नलिखित प्रश्न में प्रश्नवाचक चिन्ह(?) के स्थान पर क्या आना चाहिए?

$$\frac{31}{10} \times \frac{3}{10} + \frac{7}{5} \div 20 = ?$$

Options :

1. ✖ 0

2. ✔ 1

3. ✖ 100

4. ✖ $\frac{107}{200}$

Question Number : 84 Question Id : 54592724930 Question Type : MCQ Option Shuffling : Yes

Correct Marks : 1 Wrong Marks : 0.25

$$\frac{7}{4} + \frac{3}{2} \times \frac{1}{2} - \frac{1}{4} \text{ is equals to :}$$

Options :

1. ✔ $2 \frac{1}{4}$

2. ✖ $3 \frac{1}{4}$

3. ✖ $2 \frac{3}{4}$

4. ✖ $3 \frac{1}{2}$

Question Number : 84 Question Id : 54592724930 Question Type : MCQ Option Shuffling : Yes

Correct Marks : 1 Wrong Marks : 0.25

$$\frac{7}{4} + \frac{3}{2} \times \frac{1}{2} - \frac{1}{4} \text{ बराबर है:}$$

Options :

1. ✓ $2\frac{1}{4}$

2. ✗ $3\frac{1}{4}$

3. ✗ $2\frac{3}{4}$

4. ✗ $3\frac{1}{2}$

Question Number : 85 Question Id : 54592724931 Question Type : MCQ Option Shuffling : Yes

Correct Marks : 1 Wrong Marks : 0.25

What should come in place of the question mark (?)

$$38 + 16 \times 0.8 = ?$$

Options :

1. ✗ 43.2

2. ✓ 50.8

3. ✗ 44.8

4. ✗ 1.9

Question Number : 85 Question Id : 54592724931 Question Type : MCQ Option Shuffling : Yes

Correct Marks : 1 Wrong Marks : 0.25

प्रश्नवाचक चिन्ह (?) के स्थान पर क्या आना चाहिए।

$$38 + 16 \times 0.8 = ?$$

Options :

1. ✗ 43.2

2. ✓ 50.8

3. ✖ 44.8

4. ✖ 1.9

Question Number : 86 Question Id : 54592724932 Question Type : MCQ Option Shuffling : Yes
Correct Marks : 1 Wrong Marks : 0.25

What should come in place of the question mark (?)

$$4.5 \times 4 - 50 \text{ percent of } 14 - 25 \text{ percent of } 28 = ?$$

Options :

1. ✖ 2

2. ✔ 4

3. ✖ 6

4. ✖ 8

Question Number : 86 Question Id : 54592724932 Question Type : MCQ Option Shuffling : Yes
Correct Marks : 1 Wrong Marks : 0.25

प्रश्नवाचक चिन्ह (?) के स्थान पर क्या आना चाहिए।

$$4.5 \times 4 - 50 \text{ प्रतिशत of } 14 - 25 \text{ प्रतिशत of } 28 = ?$$

Options :

1. ✖ 2

2. ✔ 4

3. ✖ 6

4. ✖ 8

Question Number : 87 Question Id : 54592724933 Question Type : MCQ Option Shuffling : Yes
Correct Marks : 1 Wrong Marks : 0.25

Find the H.C.F. of 1.4, 3.5 and 4.9.

Options :

1. ✖ 0.07

2. ✓ 0.7

3. ✗ 3.5

4. ✗ 0.35

Question Number : 87 Question Id : 54592724933 Question Type : MCQ Option Shuffling : Yes
Correct Marks : 1 Wrong Marks : 0.25

1.4, 3.5 और 4.9 का महत्तम समापवर्तक ज्ञात कीजिए।

Options :

1. ✗ 0.07

2. ✓ 0.7

3. ✗ 3.5

4. ✗ 0.35

Question Number : 88 Question Id : 54592724934 Question Type : MCQ Option Shuffling : Yes
Correct Marks : 1 Wrong Marks : 0.25

Find the G.C.D. of 1.8, 3.6 and 7.2.

Options :

1. ✗ 3.6

2. ✗ 0.9

3. ✓ 1.8

4. ✗ 0.108

Question Number : 88 Question Id : 54592724934 Question Type : MCQ Option Shuffling : Yes
Correct Marks : 1 Wrong Marks : 0.25

1.8, 3.6 और 7.2. का महत्तम समापवर्तक ज्ञात कीजिए।

Options :

1. ✗ 3.6

2. ✗ 0.9

3. ✓ 1.8

4. ✗ 0.108

Question Number : 89 Question Id : 54592724935 Question Type : MCQ Option Shuffling : Yes

Correct Marks : 1 Wrong Marks : 0.25

Which of the following will always divide the product of 6 consecutive even natural numbers?

Options :

1. ✖ $2^5 \times 11!$

2. ✖ $2^5 \times 7!$

3. ✖ $2^6 \times 8!$

4. ✔ $2^6 \times 6!$

Question Number : 89 Question Id : 54592724935 Question Type : MCQ Option Shuffling : Yes

Correct Marks : 1 Wrong Marks : 0.25

निम्न में कौन सा 6 क्रमागत सम प्राकृतिक संख्याओं के गुणनफल को पूरी तरह विभाजित करेगा?

Options :

1. ✖ $2^5 \times 11!$

2. ✖ $2^5 \times 7!$

3. ✖ $2^6 \times 8!$

4. ✔ $2^6 \times 6!$

Question Number : 90 Question Id : 54592724936 Question Type : MCQ Option Shuffling : Yes

Correct Marks : 1 Wrong Marks : 0.25

Which of the following number is completely divisible by both 15 and 24?

Options :

1. ✔ 4680

2. ✖ 3630

3. ✖ 2460

4. ✖ 5460

Question Number : 90 Question Id : 54592724936 Question Type : MCQ Option Shuffling : Yes
Correct Marks : 1 Wrong Marks : 0.25

निम्नलिखित में से कौन सी संख्या 15 और 24 दोनों से पूरी तरह से विभाज्य है?

Options :

1. ✔ 4680

2. ✖ 3630

3. ✖ 2460

4. ✖ 5460

Question Number : 91 Question Id : 54592724937 Question Type : MCQ Option Shuffling : Yes
Correct Marks : 1 Wrong Marks : 0.25

In a bookshop, the average number of biology, chemistry and physics books is 360. The biology books are 180 more than the average number of chemistry and physics books. The number of physics books is 180 less than the average of biology and chemistry books. What is the number of chemistry books in the shop?

Options :

1. ✖ 540

2. ✖ 480

3. ✔ 360

4. ✖ 420

Question Number : 91 Question Id : 54592724937 Question Type : MCQ Option Shuffling : Yes
Correct Marks : 1 Wrong Marks : 0.25

एक किताबों की दुकान में जीव विज्ञान, रसायन विज्ञान और भौतिकी की पुस्तकों की औसत संख्या 360 है। जीव विज्ञान की पुस्तकें रसायन विज्ञान और भौतिकी की पुस्तकों की औसत संख्या से 180 अधिक हैं। भौतिकी की पुस्तकों की संख्या जीव विज्ञान और रसायन विज्ञान की पुस्तकों के औसत से 180 कम है। दुकान में रसायन विज्ञान की पुस्तकों की संख्या कितनी है?

Options :

1. ✖ 540
2. ✖ 480
3. ✔ 360
4. ✖ 420

Question Number : 92 Question Id : 54592724938 Question Type : MCQ Option Shuffling : Yes
Correct Marks : 1 Wrong Marks : 0.25

The average weight of books in a school library is 780 g. If a student is issued three books of average weight of 720 g, then the average weight of the remaining books will be 781 g. Find the number of books in the library.

Options :

1. ✔ 183
2. ✖ 295
3. ✖ 321
4. ✖ 344

Question Number : 92 Question Id : 54592724938 Question Type : MCQ Option Shuffling : Yes
Correct Marks : 1 Wrong Marks : 0.25

एक स्कूल पुस्तकालय में पुस्तकों का औसत वजन 780 ग्राम है। यदि किसी छात्र को 720 ग्राम के औसत वजन की तीन पुस्तकें जारी की जाती हैं, तो शेष पुस्तकों का औसत वजन 781 ग्राम होगा। पुस्तकालय में पुस्तकों की संख्या ज्ञात कीजिए।

Options :

1. ✓ 183

2. ✗ 295

3. ✗ 321

4. ✗ 344

Question Number : 93 Question Id : 54592724939 Question Type : MCQ Option Shuffling : Yes

Correct Marks : 1 Wrong Marks : 0.25

Deepak buys a product at successive discounts of 35 percent and 15 percent respectively. But he paid 8 percent sales tax on purchased price. If Deepak paid a total of Rs.7637.76 for the product, then what was the marked price of the product?

Options :

1. ✗ Rs.16500

2. ✗ Rs.18600

3. ✓ Rs.12800

4. ✗ Rs.10400

Question Number : 93 Question Id : 54592724939 Question Type : MCQ Option Shuffling : Yes

Correct Marks : 1 Wrong Marks : 0.25

दीपक क्रमशः 35 प्रतिशत और 15 प्रतिशत की छूट पर एक वस्तु खरीदता है लेकिन उसने खरीदे गए मूल्य पर 8 प्रतिशत बिक्री कर का भुगतान किया। यदि दीपक ने वस्तु के लिए कुल रु.7637.76 का भुगतान किया है, तो वस्तु का अंकित मूल्य क्या था?

Options :

1. ✖ ₹.16500

2. ✖ ₹.18600

3. ✔ ₹.12800

4. ✖ ₹.10400

Question Number : 94 Question Id : 54592724940 Question Type : MCQ Option Shuffling : Yes
Correct Marks : 1 Wrong Marks : 0.25

When a person measures the area of a rectangle, he measures the length _____ percent longer and measures the breadth _____ percent longer. As a result, the area of the rectangle increases by 49.5 percent. Which of the following options satisfy the blank spaces respectively?

Options :

1. ✖ 20, 25

2. ✖ 10, 35

3. ✔ 30, 15

4. ✖ 18, 28

Question Number : 94 Question Id : 54592724940 Question Type : MCQ Option Shuffling : Yes
Correct Marks : 1 Wrong Marks : 0.25

जब कोई व्यक्ति एक आयत के क्षेत्र को मापता है, तो वह लंबाई _____ प्रतिशत अधिक मापता है और चौड़ाई _____ प्रतिशत अधिक मापता है। नतीजतन, आयत का क्षेत्रफल 49.5 प्रतिशत बढ़ जाता है। निम्नलिखित में से कौन सा विकल्प क्रमशः रिक्त स्थानों को संतुष्ट करता है?

Options :

1. ✖ 20, 25

2. ✖ 10, 35

3. ✓ 30, 15

4. ✗ 18, 28

Question Number : 95 Question Id : 54592724941 Question Type : MCQ Option Shuffling : Yes

Correct Marks : 1 Wrong Marks : 0.25

The price of a ticket for a movie is Rs.90 and number of tickets sold is 75 on Friday. The sale of tickets is increased by $133\frac{1}{3}\%$ due to decrease in the price by 20% on Saturday. The sale of the number of tickets on Sunday decreased by 40% as there is no change in the price of ticket compared to that on Saturday. What the percentage increase in the revenue is on Sunday as compared on Friday?

Options :

1. ✗ 18 percent

2. ✗ 16 percent

3. ✓ 12 percent

4. ✗ 8 percent

Question Number : 95 Question Id : 54592724941 Question Type : MCQ Option Shuffling : Yes

Correct Marks : 1 Wrong Marks : 0.25

किसी फिल्म के टिकट की कीमत 90 रुपये है और शुक्रवार को बेची गई टिकटों की संख्या 75 है। शनिवार को 20% की कीमत में कमी के कारण टिकटों की बिक्री में $133\frac{1}{3}\%$ की वृद्धि हुई है। रविवार को टिकटों की संख्या में 40% की कमी हुई क्योंकि शनिवार की तुलना में टिकट की कीमत में कोई बदलाव नहीं हुआ है। शुक्रवार की तुलना में रविवार को राजस्व में कितने प्रतिशत की वृद्धि हुई है?

Options :

1. ✗ 18 प्रतिशत

2. ✗ 16 प्रतिशत

3. ✓ 12 प्रतिशत

4. ✗ 8 प्रतिशत

Question Number : 96 Question Id : 54592724942 Question Type : MCQ Option Shuffling : Yes

Correct Marks : 1 Wrong Marks : 0.25

On the first day of school, 20 percent of the students were absent. Of the students present, 29 percent wore white shirts, 32 percent wore blue shirts, 18 percent wore black shirts and rest of 105 students wore red shirts. Find the total number of students in the school.

Options :

1. ✖ 500
2. ✔ 625
3. ✖ 750
4. ✖ 800

Question Number : 96 Question Id : 54592724942 Question Type : MCQ Option Shuffling : Yes
Correct Marks : 1 Wrong Marks : 0.25

स्कूल के पहले दिन, 20 प्रतिशत छात्र अनुपस्थित थे। उपस्थित छात्रों में से, 29 प्रतिशत ने सफेद शर्ट पहनी थी, 32 प्रतिशत ने नीले रंग की शर्ट पहनी थी, 18 प्रतिशत ने काली शर्ट पहनी थी और बाकी के 105 छात्रों ने लाल शर्ट पहनी थी। विद्यालय में छात्रों की कुल संख्या ज्ञात कीजिए।

Options :

1. ✖ 500
2. ✔ 625
3. ✖ 750
4. ✖ 800

Question Number : 97 Question Id : 54592724943 Question Type : MCQ Option Shuffling : Yes
Correct Marks : 1 Wrong Marks : 0.25

A trader had certain number of pens with him. He sold all the pens on an offer of ten free on a purchase of fifty pens. Find the profit percentage if he marked all the pens at 40 percent more than the cost price.

Options :

1. * 18.25 percent
2. * 14.28 percent
3. ✓ 16.67 percent
4. * 20 percent

Question Number : 97 Question Id : 54592724943 Question Type : MCQ Option Shuffling : Yes

Correct Marks : 1 Wrong Marks : 0.25

एक व्यापारी के पास निश्चित संख्या में पेन थे। उसने सभी पेन, 50 की खरीद पर 10 फ्री के हिसाब से बेचे। लाभ प्रतिशत ज्ञात करें यदि उसने सभी पेन को लागत मूल्य से 40 प्रतिशत अधिक पर अंकित किया है।

Options :

1. * 18.25 प्रतिशत
2. * 14.28 प्रतिशत
3. ✓ 16.67 प्रतिशत
4. * 20 प्रतिशत

Question Number : 98 Question Id : 54592724944 Question Type : MCQ Option Shuffling : Yes

Correct Marks : 1 Wrong Marks : 0.25

A speaker is sold at 15 percent profit. If its selling price and cost price are increased by Rs.14 and Rs.40 respectively, then the percentage of profit will be $105/17$ percent. What is its cost price?

Options :

1. ✓ Rs.640

2. * Rs.680

3. * Rs.760

4. * Rs.810

Question Number : 98 Question Id : 54592724944 Question Type : MCQ Option Shuffling : Yes
Correct Marks : 1 Wrong Marks : 0.25

एक स्पीकर को 15 प्रतिशत लाभ पर बेचा जाता है। यदि इसकी बिक्री मूल्य और लागत मूल्य क्रमशः 14 रुपये और 40 रुपये बढ़ जाते हैं, तो लाभ का प्रतिशत $105/17$ प्रतिशत होगा। इसकी लागत मूल्य क्या है?

Options :

1. ✓ रू. 640

2. * रू. 680

3. * रू. 760

4. * रू. 810

Question Number : 99 Question Id : 54592724945 Question Type : MCQ Option Shuffling : Yes
Correct Marks : 1 Wrong Marks : 0.25

A man bought a table and a chair together at Rs.9000. He sold the table at 8 percent loss and chair at 22 percent profit. On the whole he got 16 percent profit. What is the selling price of chair?

Options :

1. * Rs.7800

2. * Rs.8566

3. * Rs.8623

4. ✓ Rs.8784

Question Number : 99 Question Id : 54592724945 Question Type : MCQ Option Shuffling : Yes
Correct Marks : 1 Wrong Marks : 0.25

एक आदमी ने एक टेबल और एक कुर्सी रु.9000 में खरीदी। उसने टेबल को 8 प्रतिशत की हानि पर और कुर्सी को 22 प्रतिशत लाभ पर बेचा। कुल मिलाकर उसे 16 प्रतिशत लाभ हुआ। कुर्सी का विक्रय मूल्य क्या है?

Options :

1. * रु.7800
2. * रु.8566
3. * रु.8623
4. ✓ रु.8784

Question Number : 100 Question Id : 54592724946 Question Type : MCQ Option Shuffling : Yes

Correct Marks : 1 Wrong Marks : 0.25

In a college, the number of seats available for doing MBA in HR, Marketing and Finance are in the ratio 3 : 1 : 4. The admission fee for Finance, HR and Marketing are in the ratio 6 : 5 : 10. The difference between the total revenue of Finance and marketing is Rs.11,20,000. What is the total revenue of HR?

Options :

1. * Rs.8,00,000
2. * Rs.10,50,000
3. ✓ Rs.12,00,000
4. * Rs.14,80,000

Question Number : 100 Question Id : 54592724946 Question Type : MCQ Option Shuffling : Yes

Correct Marks : 1 Wrong Marks : 0.25

एक कॉलेज में, मानव संसाधन, विपणन और वित्त में एमबीए करने के लिए उपलब्ध सीटों की संख्या 3: 1: 4 में है। वित्त, मानव संसाधन और विपणन के लिए प्रवेश शुल्क 6: 5: 10. के अनुपात में है। वित्त और विपणन का कुल राजस्व ₹.11,20,000 है। मानव संसाधन का कुल राजस्व कितना है?

Options :

1. ✘ ₹.8,00,000
2. ✘ ₹.10,50,000
3. ✔ ₹.12,00,000
4. ✘ ₹.14,80,000

Arithmetic Ability2

Group Number :	6
Group Id :	5459271236
Group Maximum Duration :	0
Group Minimum Duration :	0
Show Attended Group? :	No
Edit Attended Group? :	No
Break time:	0
Group Marks:	20
Is this Group for Examiner?:	No
Revisit allowed for group Instructions? :	Yes
Maximum Instruction Time:	0
Minimum Instruction Time:	0

Arithmetic Ability2

Section Id :	5459271236
Section Number :	1
Section type :	Online
Mandatory or Optional:	Mandatory
Number of Questions:	20
Number of Questions to be attempted:	20
Section Marks:	20

Sub-Section Id:

5459271482

Question Shuffling Allowed :

Yes

Question Number : 101 Question Id : 54592724947 Question Type : MCQ Option Shuffling : Yes

Correct Marks : 1 Wrong Marks : 0.25

Raghu, Ram and Rajan have some money with them. Raghu donate Rs.750, Ram donate Rs.500 and Rajan donate Rs.300, then the ratio of money with them become 15 : 20 : 26. If the difference of the initial money with Raghu and Rajan is Rs.1750. What is the initial money with Ram?

Options :

1. ✓ Rs.4500
2. ✗ Rs.5500
3. ✗ Rs.3000
4. ✗ Rs.3800

Question Number : 101 Question Id : 54592724947 Question Type : MCQ Option Shuffling : Yes

Correct Marks : 1 Wrong Marks : 0.25

रघु, राम और राजन के पास कुछ पैसे हैं। रघु ने, 750 रुपये, राम ने 500 रुपये और राजन ने 300 रुपये का दान दिया, फिर उनके साथ पैसे का अनुपात 15 : 20 : 26 हो गया। अगर रघु और राजन के साथ शुरुआती पैसे का अंतर 1750 रुपये है। राम के पास शुरुआती पैसा कितना है?

Options :

1. ✓ ₹.4500
2. ✗ ₹.5500
3. ✗ ₹.3000
4. ✗ ₹.3800

Question Number : 102 Question Id : 54592724948 Question Type : MCQ Option Shuffling : Yes

Correct Marks : 1 Wrong Marks : 0.25

Find the sum of the second and third proportional to the 4 and 15, if their difference is 4.

Options :

- 1. ✖ 23
- 2. ✖ 17
- 3. ✖ 19
- 4. ✔ 16

Question Number : 102 Question Id : 54592724948 Question Type : MCQ Option Shuffling : Yes

Correct Marks : 1 Wrong Marks : 0.25

4 और 15 के दूसरे और तीसरे आनुपातिक का योग ज्ञात करें, यदि उनका अंतर 4 है।

Options :

- 1. ✖ 23
- 2. ✖ 17
- 3. ✖ 19
- 4. ✔ 16

Question Number : 103 Question Id : 54592724949 Question Type : MCQ Option Shuffling : Yes

Correct Marks : 1 Wrong Marks : 0.25

Arun borrowed Rs.15000 and Rs.30000 at 12 percent per annum and 10 percent per annum respectively at compound interest compounded half yearly. He lent the whole amount at 15 percent per annum at simple interest. The amount Arun will be left with at the end of first year will be:

Options :

- 1. ✔ Rs.1821
- 2. ✖ Rs.1964
- 3. ✖ Rs.1675
- 4. ✖ Rs.2004

Question Number : 103 Question Id : 54592724949 Question Type : MCQ Option Shuffling : Yes

Correct Marks : 1 Wrong Marks : 0.25

अरुण ने 12 प्रतिशत प्रति वर्ष के हिसाब से रु.15000 और 10 प्रतिशत प्रतिवर्ष के हिसाब से रु. 30000 चक्रवृद्धि ब्याज (छमाही गणना) पर उधार लिया। उसने 15 प्रतिशत प्रति वर्ष साधारण ब्याज पर पूरी राशि उधार दी। एक वर्ष के अंत में अरुण के पास शेष राशि होगी।

Options :

1. ✓ रु.1821
2. ✗ रु.1964
3. ✗ रु.1675
4. ✗ रु.2004

Question Number : 104 Question Id : 54592724950 Question Type : MCQ Option Shuffling : Yes

Correct Marks : 1 Wrong Marks : 0.25

Rs.12186 was divided among Mini and Neelam. Each of them invested their shares at 8 percent per annum compound interest. The value of Mini's investment at the end of six years was equal to the value of Neelam's investment at the end of eight years. Find the share of Mini.

Options :

1. ✗ Rs.6241
2. ✓ Rs.6561
3. ✗ Rs.6724
4. ✗ Rs.6400

Question Number : 104 Question Id : 54592724950 Question Type : MCQ Option Shuffling : Yes

Correct Marks : 1 Wrong Marks : 0.25

₹.12186 को मिनी और नीलम में विभाजित किया गया। उनमें से प्रत्येक ने अपने शेयरों को 8 प्रतिशत प्रति वर्ष चक्रवृद्धि ब्याज पर निवेश किया। छह वर्षों के अंत में मिनी के निवेश का मूल्य आठ साल के अंत में नीलम के निवेश के मान के बराबर था। मिनी का हिस्सा ज्ञात कीजिए।

Options :

1. ✖ ₹.6241
2. ✔ ₹.6561
3. ✖ ₹.6724
4. ✖ ₹.6400

Question Number : 105 Question Id : 54592724951 Question Type : MCQ Option Shuffling : Yes

Correct Marks : 1 Wrong Marks : 0.25

A person invested one third of his money at 8.5 percent per annum simple interest, one third of the remaining at 10.5 percent per annum simple interest and remaining at 12 percent per annum simple interest. Find the effective rate of interest at which he invested entire money.

Options :

1. ✖ 9.35 percent
2. ✔ 10.5 percent
3. ✖ 11.25 percent
4. ✖ 10 percent

Question Number : 105 Question Id : 54592724951 Question Type : MCQ Option Shuffling : Yes

Correct Marks : 1 Wrong Marks : 0.25

एक व्यक्ति ने अपने धन का एक तिहाई 8.5 प्रतिशत प्रति वर्ष साधारण ब्याज पर, शेष एक तिहाई 10.5 प्रतिशत प्रति वर्ष साधारण ब्याज पर और शेष 12 प्रतिशत प्रतिवर्ष साधारण ब्याज पर लगाया। उस प्रभावी दर को ज्ञात कीजिए जिस पर उसने पूरे पैसे का निवेश किया है।

Options :

1. * 9.35 प्रतिशत
2. ✓ 10.5 प्रतिशत
3. * 11.25 प्रतिशत
4. * 10 प्रतिशत

Question Number : 106 Question Id : 54592724952 Question Type : MCQ Option Shuffling : Yes

Correct Marks : 1 Wrong Marks : 0.25

A student rides on bicycle at 8 km/h and reaches his school 2.5 minutes late. The next day he increases his speed to 10 km/h and reaches school 5 minutes early. How far is the school from his house?

Options :

1. * 5/4 km
2. * 8 km
3. ✓ 5 km
4. * 10 km

Question Number : 106 Question Id : 54592724952 Question Type : MCQ Option Shuffling : Yes

Correct Marks : 1 Wrong Marks : 0.25

एक विद्यार्थी 8 कि.मी/घंटा की गति से साइकिल चलाता है और अपने विद्यालय 2.5 मिनट देर से पहुँचता है। अगले दिन वह अपनी गति को बढ़ाकर 10 कि.मी/घंटा कर देता है और 5 मिनट पहले ही विद्यालय पहुँच जाता है। उसके घर से विद्यालय कितना दूर है?

Options :

1. ✖ 5/4 कि.मी
2. ✖ 8 कि.मी
3. ✔ 5 कि.मी
4. ✖ 10 कि.मी

Question Number : 107 Question Id : 54592724953 Question Type : MCQ Option Shuffling : Yes

Correct Marks : 1 Wrong Marks : 0.25

Karan travels the first one-fourth of his journey time at 70 kmph, and the remaining at 30 kmph. If he covers a total distance of 320 km. find his average speed over the entire journey.

Options :

1. ✖ 32km/hour
2. ✔ 35 km/hour
3. ✖ 36 km/hour
4. ✖ 42 km/hour

Question Number : 107 Question Id : 54592724953 Question Type : MCQ Option Shuffling : Yes

Correct Marks : 1 Wrong Marks : 0.25

करण अपनी यात्रा के समय का पहला एक-चौथाई भाग 70 किमी प्रति घंटे और शेष 30 किमी प्रति घंटे की गति से तय करता है। यदि वह 320 किमी की कुल दूरी तय करता है। पूरी यात्रा में उनकी औसत गति ज्ञात करें।

Options :

1. ✖ 32 किमी/घंटे
2. ✔ 35 किमी/घंटे
3. ✖ 36 किमी/घंटे
4. ✖ 42 किमी/घंटे

Question Number : 108 Question Id : 54592724954 Question Type : MCQ Option Shuffling : Yes

Correct Marks : 1 Wrong Marks : 0.25

Rajendra made an upstream journey of 45 km in a certain time. If his speed in still water was 2 kmph less and the speed of the stream was 2 kmph more, he would have taken 4 hours more for that journey. Find his upstream speed (in kmph).

Options :

1. ✖ 8 km/hour
2. ✔ 9 km/hour
3. ✖ 12 km/hour
4. ✖ 13.5 km/hour

Question Number : 108 Question Id : 54592724954 Question Type : MCQ Option Shuffling : Yes

Correct Marks : 1 Wrong Marks : 0.25

राजेंद्र ने एक निश्चित समय में 45 किमी धारा की विपरित दिशा में (ऊर्ध्वप्रवाह) यात्रा की। यदि शांत जल में उसकी गति 2 किमी प्रति घंटा कम हो जाये और धारा की गति 2 किमी प्रति घंटा अधिक हो जाये, तो उसे उस यात्रा में 4 घंटे अधिक लगेंगे। उसकी धारा के विपरित दिशा में गति (ऊर्ध्वप्रवाह) ज्ञात कीजिये। (किमी प्रति घंटे में)

Options :

1. ✖ 8 किमी/घंटे
2. ✔ 9 किमी/घंटे
3. ✖ 12 किमी/घंटे
4. ✖ 13.5 किमी/घंटे

Question Number : 109 Question Id : 54592724955 Question Type : MCQ Option Shuffling : Yes

Correct Marks : 1 Wrong Marks : 0.25

Nine men can complete a job in 15 days. If a man works thrice as fast as a woman, find the number of, days taken by 15 women to complete the job.

Options :

1. ✖ 20

2. ✖ 24

3. ✔ 27

4. ✖ 36

Question Number : 109 Question Id : 54592724955 Question Type : MCQ Option Shuffling : Yes

Correct Marks : 1 Wrong Marks : 0.25

15 दिन में नौ व्यक्ति किसी कार्य को पूरा कर सकते हैं। अगर कोई पुरुष एक महिला की तुलना में तीन गुना क्षमता से कार्य करता है, तो कार्य को पूरा करने के लिए 15 महिलाओं द्वारा लिए गए दिनों की संख्या ज्ञात करें।

Options :

1. ✖ 20

2. ✖ 24

3. ✔ 27

4. ✖ 36

Question Number : 110 Question Id : 54592724956 Question Type : MCQ Option Shuffling : Yes

Correct Marks : 1 Wrong Marks : 0.25

A team of two people A and B, who can complete a piece of work together in 40 days, begin the work. C joins them after 8 days and the work gets completed in 24 days after C joins them. In how many days can C alone complete the work?

Options :

1. ✖ 90

2. ✖ 80

3. ✖ 60

4. ✔ 120

Question Number : 110 Question Id : 54592724956 Question Type : MCQ Option Shuffling : Yes
Correct Marks : 1 Wrong Marks : 0.25

दो लोगों A और B की एक टीम, जो 40 दिनों में एक साथ किसी कार्य को पूरा करते हैं, काम शुरू करते हैं। 8 दिनों के बाद C उनसे जुड़ता है और C के जुड़ने के बाद 24 दिनों में कार्य पूरा हो जाता है। C अकेले कितने दिनों में उस काम को पूरा कर सकता है?

Options :

1. ✖ 90
2. ✖ 80
3. ✖ 60
4. ✔ 120

Question Number : 111 Question Id : 54592724957 Question Type : MCQ Option Shuffling : Yes
Correct Marks : 1 Wrong Marks : 0.25

A tank is filled in 7 hours by three pipes A, B and C. The pipe C is thrice as fast as B and B is thrice as fast as A. How much time will pipe A alone take to fill the tank?

Options :

1. ✖ 46 hrs
2. ✖ 105 hrs
3. ✔ 91 hrs
4. ✖ 35 hrs

Question Number : 111 Question Id : 54592724957 Question Type : MCQ Option Shuffling : Yes
Correct Marks : 1 Wrong Marks : 0.25

एक टैंक 7 घंटे में तीन पाइपों A, B और C द्वारा भरा जाता है। पाइप C, पाइप B से तीन गुना अधिक क्षमता का है और पाइप B, पाइप A से तीन गुना अधिक क्षमता का है। पाइप A अकेले टैंक को भरने में कितना समय लेगा?

Options :

1. ✖ 46 घंटे
2. ✖ 105 घंटे
3. ✔ 91 घंटे
4. ✖ 35 घंटे

Question Number : 112 Question Id : 54592724958 Question Type : MCQ Option Shuffling : Yes
Correct Marks : 1 Wrong Marks : 0.25

The circumference of base of a cylinder is 7π cm and the height is twice the radius of base. Find the volume of the cylinder (in cm^3)?

Options :

1. ✔ 269.5
2. ✖ 343
3. ✖ 288
4. ✖ 196

Question Number : 112 Question Id : 54592724958 Question Type : MCQ Option Shuffling : Yes
Correct Marks : 1 Wrong Marks : 0.25

एक बेलन के आधार की परिधी 7π सेमी. है और उंचाई उसके आधार की त्रिज्या का दोगुना है। बेलन का आयतन ज्ञात करें (घन सेमी में)?

Options :

1. ✔ 269.5
2. ✖ 343
3. ✖ 288
4. ✖ 196

Question Number : 113 Question Id : 54592724959 Question Type : MCQ Option Shuffling : Yes
Correct Marks : 1 Wrong Marks : 0.25

The perimeter of a right triangle is 80 cm and its hypotenuse is 34 cm. The area of the triangle is _____.

Options :

1. ✖ 640 sq cm.
2. ✖ 360 sq cm.
3. ✖ 420 sq cm
4. ✔ 240 sq cm.

Question Number : 113 Question Id : 54592724959 Question Type : MCQ Option Shuffling : Yes

Correct Marks : 1 Wrong Marks : 0.25

एक समकोण त्रिभुज की परिमाप 80 सेमी है और इसका कर्ण की लम्बाई 34 सेमी है। त्रिभुज का क्षेत्रफल _____ है।

Options :

1. ✖ 640 वर्ग सेमी
2. ✖ 360 वर्ग सेमी
3. ✖ 420 वर्ग सेमी
4. ✔ 240 वर्ग सेमी

Question Number : 114 Question Id : 54592724960 Question Type : MCQ Option Shuffling : Yes

Correct Marks : 1 Wrong Marks : 0.25

The length, breadth and height of a room are in the ratio of 4 : 3 : 2. The cost of carpeting the floor at Rs. 10 per square meter is Rs. 480. Find the height of the room.

Options :

1. ✖ 10 m
2. ✖ 6 m
3. ✔ 4 m
4. ✖ 2 m

Question Number : 114 Question Id : 54592724960 Question Type : MCQ Option Shuffling : Yes

Correct Marks : 1 Wrong Marks : 0.25

एक कमरे की लंबाई, चौड़ाई और ऊँचाई 4 : 3 : 2 के अनुपात में है।
10 रु प्रति वर्ग मीटर से फर्श को गलीचे से ढकने की लागत 480 रु. है।
कमरे की ऊँचाई ज्ञात कीजिए।

Options :

1. ✖ 10 मीटर
2. ✖ 6 मीटर
3. ✔ 4 मीटर
4. ✖ 2 मीटर

Question Number : 115 Question Id : 54592724961 Question Type : MCQ Option Shuffling : Yes

Correct Marks : 1 Wrong Marks : 0.25

Study the following table carefully to answer these questions:

Population (in thousands) of four States over the years

Years	STATE			
	A	B	C	D
2013	310	260	115	162
2014	315	280	126	167
2015	320	290	128	175
2016	324	294	144	212

Which state had the highest per cent rise in population from 2015 to 2016?

Options :

1. ✖ C
2. ✖ B
3. ✔ D
4. ✖ A

Question Number : 115 Question Id : 54592724961 Question Type : MCQ Option Shuffling : Yes
Correct Marks : 1 Wrong Marks : 0.25

निम्नलिखित प्रश्नों का उत्तर देने के लिए सावधानीपूर्वक निम्नलिखित तालिका का अध्ययन करें।

दिए गए वर्षों में 4 राज्यों की जनसंख्या (हजार में)

वर्ष	राज्य			
	A	B	C	D
2013	310	260	115	162
2014	315	280	126	167
2015	320	290	128	175
2016	324	294	144	212

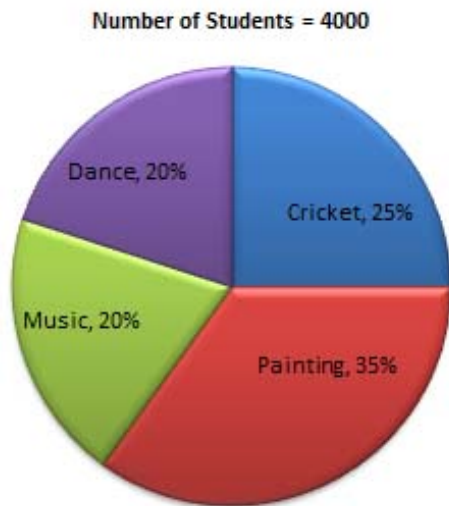
20015 से 2016 में किस राज्य की जनसंख्या में सर्वोच्च वृद्धि हुई थी?

Options :

1. ✘ C
2. ✘ B
3. ✔ D
4. ✘ A

Question Number : 116 Question Id : 54592724962 Question Type : MCQ Option Shuffling : Yes
Correct Marks : 1 Wrong Marks : 0.25

Following pie chart shows percent of students enrolled in different cultural activities of a college. You are required to study the pie chart carefully and answer the question given below.



How many students have opted for Dance and music together?

Options :

1. ✘ 900
2. ✔ 1600
3. ✘ 1200
4. ✘ 1500

Question Number : 116 Question Id : 54592724962 Question Type : MCQ Option Shuffling : Yes
Correct Marks : 1 Wrong Marks : 0.25

एक कॉलेज की विभिन्न सांस्कृतिक गतिविधियों में नामांकित छात्रों को पाई चार्ट में प्रतिशत में दिखाया गया है। आपको पाई चार्ट का ध्यानपूर्वक अध्ययन करना होगा और नीचे दिए गए प्रश्न का उत्तर देना होगा।

छात्रों की संख्या = 4000



नृत्य और संगीत का चयन कितने छात्रों ने किया है?

Options :

1. ✘ 900
2. ✔ 1600
3. ✘ 1200
4. ✘ 1500

Question Number : 117 Question Id : 54592724963 Question Type : MCQ Option Shuffling : Yes
Correct Marks : 1 Wrong Marks : 0.25

Study the following Table carefully to answer the questions. Table represents Percentage of employees working in various departments of an organization.

Total Number of Employees = 6000

Department	employee
Production	25%
HR	30%
IT	20%
Marketing	15%
Accounts	10%

The number of employee working in the Production department of the organization forms approximately what percent of the total number of employees working in account department?

Options :

1. ✖ 160 percent
2. ✖ 220 percent
3. ✖ 130 percent
4. ✔ 250 percent

Question Number : 117 Question Id : 54592724963 Question Type : MCQ Option Shuffling : Yes
Correct Marks : 1 Wrong Marks : 0.25

निम्नलिखित प्रश्नों का उत्तर देने के लिए निम्नलिखित तालिका का ध्यानपूर्वक अध्ययन करें।

तालिका विभिन्न विभागों में काम करने वाले कर्मचारियों के प्रतिशत को दर्शाता है।

कर्मचारियों की कुल संख्या = 6000

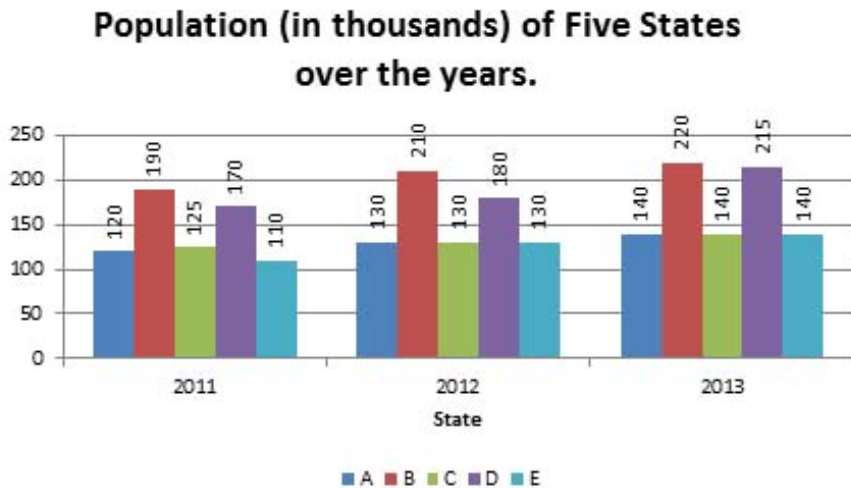
विभाग	कर्मचारी
उत्पादन	25%
मानव संसाधन	30%
आईटी	20%
विपणन	15%
लेखा	10%

उत्पादन विभाग में काम करने वाले कर्मचारी की संख्या, लेखा विभाग में काम करने वाले कर्मचारियों की संख्या का लगभग कितना प्रतिशत है?

Options :

1. ✖ 160 प्रतिशत
2. ✖ 220 प्रतिशत
3. ✖ 130 प्रतिशत
4. ✔ 250 प्रतिशत

Study the following graph carefully to answer these questions:



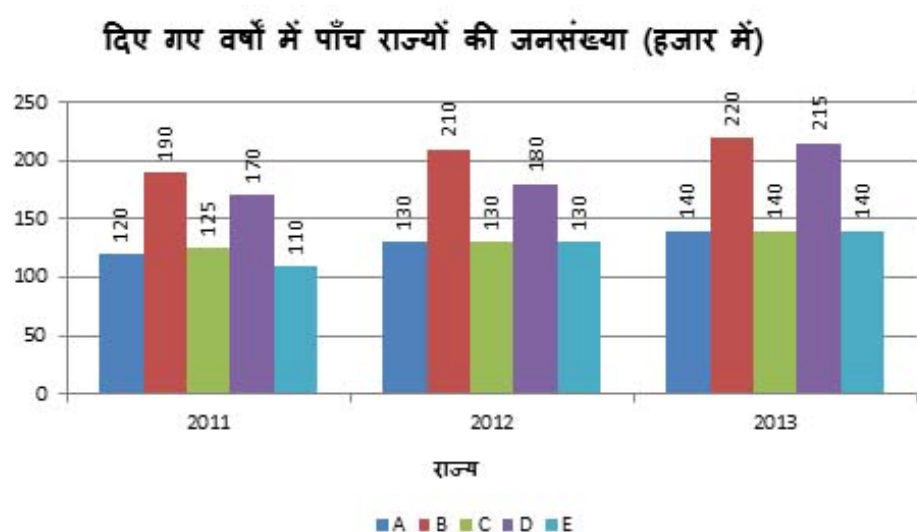
Population of state C in 2011 is approximately what percent of the total population of all states together in that year?

Options :

1. ✓ 17.5
2. ✗ 11.5
3. ✗ 10.2
4. ✗ 8.6

Question Number : 118 Question Id : 54592724964 Question Type : MCQ Option Shuffling : Yes
Correct Marks : 1 Wrong Marks : 0.25

निम्नलिखित प्रश्नों का उत्तर देने के लिए सावधानीपूर्वक निम्नलिखित ग्राफ का अध्ययन करें।



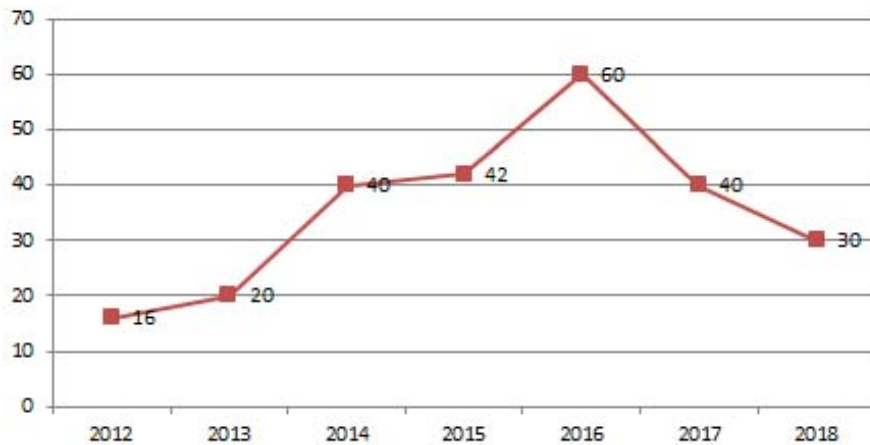
2011 में राज्य C की जनसंख्या, उस वर्ष में सभी राज्यों की कुल जनसंख्या का लगभग कितना प्रतिशत है?

Options :

1. ✓ 17.5
2. ✗ 11.5
3. ✗ 10.2
4. ✗ 8.6

Question Number : 119 Question Id : 54592724965 Question Type : MCQ Option Shuffling : Yes
Correct Marks : 1 Wrong Marks : 0.25

Following line-graph shows the percentage profit earned by a company during the period of 2012 to 2018.



If the income of Company in 2012 is the same as the income in 2018, then what would be the ratio of the expenditure of Company in 2012 to the expenditure in 2018?

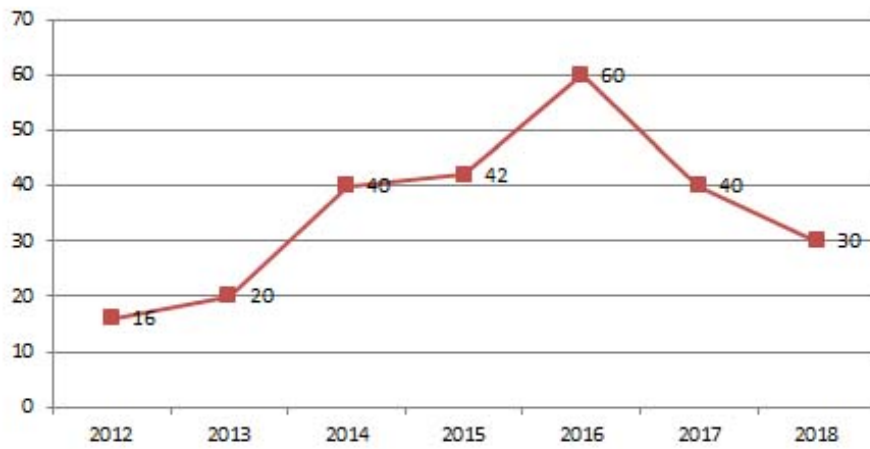
Options :

1. ✓ 65 : 58
2. ✗ 41 : 92
3. ✗ 71 : 15
4. ✗ 83 : 15

Question Number : 119 Question Id : 54592724965 Question Type : MCQ Option Shuffling : Yes

Correct Marks : 1 Wrong Marks : 0.25

निम्नलिखित लाइन-ग्राफ 2012 से 2018 की अवधि के दौरान एक कंपनी द्वारा अर्जित प्रतिशत लाभ को दर्शाता है।



यदि वर्ष 2012 में कंपनी की आय, वर्ष 2018 में आय के समान है, तो वर्ष 2012 में कंपनी के व्यय तथा वर्ष 2018 में व्यय का अनुपात क्या होगा?

Options :

1. ✓ 65 : 58
2. ✗ 41 : 92
3. ✗ 71 : 15
4. ✗ 83 : 15

Question Number : 120 Question Id : 54592724966 Question Type : MCQ Option Shuffling : Yes
Correct Marks : 1 Wrong Marks : 0.25

Following bar-graph shows the percentage profit earned by a company during the period of 2012 to 2016.



If the profits (in Rs.) of company in the year 2013 and 2014 are equal, then what is the respective ratio of expenditure in the year 2013 and 2014?

Options :

1. ✖ 7 : 2
2. ✔ 7 : 5
3. ✖ 3 : 5
4. ✖ 2 : 5

Question Number : 120 Question Id : 54592724966 Question Type : MCQ Option Shuffling : Yes
Correct Marks : 1 Wrong Marks : 0.25

निम्नलिखित बार-ग्राफ 2012 से 2016 की अवधि के दौरान एक कंपनी द्वारा अर्जित प्रतिशत लाभ को दर्शाता है।



यदि वर्ष 2013 और 2014 में कंपनी का लाभ (रु. में) समान है, तो वर्ष 2013 और 2014 में व्यय का क्रमशः अनुपात क्या है?

Options :

1. ✖ 7 : 2

2. ✔ 7 : 5

3. ✖ 3 : 5

4. ✖ 2 : 5

General English1

Group Number :	7
Group Id :	5459271237
Group Maximum Duration :	0
Group Minimum Duration :	0
Show Attended Group? :	No
Edit Attended Group? :	No
Break time:	0
Group Marks:	20
Is this Group for Examiner?:	No
Revisit allowed for group Instructions? :	Yes
Maximum Instruction Time:	0
Minimum Instruction Time:	0

General English1

Section Id :	5459271237
Section Number :	1
Section type :	Online
Mandatory or Optional:	Mandatory
Number of Questions:	20
Number of Questions to be attempted:	20
Section Marks:	20

Sub-Section Number:	1
Sub-Section Id:	5459271483
Question Shuffling Allowed :	Yes

Question Number : 121 Question Id : 54592724967 Question Type : MCQ Option Shuffling : Yes
Correct Marks : 1 Wrong Marks : 0.25

Identify the segment in the sentence which contains the grammatical error from the given options.

The moon is one of the most promising place to explore the birth and development of our solar system.

Options :

1. ✖ The moon is one of
2. ✔ the most promising place to
3. ✖ the birth and development
4. ✖ of our solar system.

Question Number : 121 Question Id : 54592724967 Question Type : MCQ Option Shuffling : Yes
Correct Marks : 1 Wrong Marks : 0.25

Identify the segment in the sentence which contains the grammatical error from the given options.

The moon is one of the most promising place to explore the birth and development of our solar system.

Options :

1. ✖ The moon is one of
2. ✔ the most promising place to
3. ✖ the birth and development
4. ✖ of our solar system.

Question Number : 122 Question Id : 54592724968 Question Type : MCQ Option Shuffling : Yes
Correct Marks : 1 Wrong Marks : 0.25

Identify the segment in the sentence which contains the grammatical error from the given options.

Fear of snake bites contributes to negative attitudes of snakes.

Options :

1. ✖ Fear of snake
2. ✖ bites contributes to
3. ✖ negative attitudes
4. ✔ of snakes.

Question Number : 122 Question Id : 54592724968 Question Type : MCQ Option Shuffling : Yes
Correct Marks : 1 Wrong Marks : 0.25

Identify the segment in the sentence which contains the grammatical error from the given options.

Fear of snake bites contributes to negative attitudes of snakes.

Options :

1. ✘ Fear of snake
2. ✘ bites contributes to
3. ✘ negative attitudes
4. ✔ of snakes.

Question Number : 123 Question Id : 54592724969 Question Type : MCQ Option Shuffling : Yes
Correct Marks : 1 Wrong Marks : 0.25

Identify the segment in the sentence which contains the grammatical error from the given options.

When the ice melts, the sea gets warmer, because the water absorbing the energy of the sun.

Options :

1. ✘ When the ice melts,
2. ✘ the sea gets warmer,
3. ✘ because the water
4. ✔ absorbing the energy of the sun.

Question Number : 123 Question Id : 54592724969 Question Type : MCQ Option Shuffling : Yes
Correct Marks : 1 Wrong Marks : 0.25

Identify the segment in the sentence which contains the grammatical error from the given options.

When the ice melts, the sea gets warmer, because the water absorbing the energy of the sun.

Options :

1. ✖ When the ice melts,
2. ✖ the sea gets warmer,
3. ✖ because the water
4. ✔ absorbing the energy of the sun.

Question Number : 124 Question Id : 54592724970 Question Type : MCQ Option Shuffling : Yes
Correct Marks : 1 Wrong Marks : 0.25

Identify the segment in the sentence which contains the grammatical error from the given options.

Self-care, which most happens outside the formal health system, is nothing new.

Options :

1. ✔ Self-care, which most
2. ✖ happens outside the
3. ✖ formal health system,
4. ✖ is nothing new.

Question Number : 124 Question Id : 54592724970 Question Type : MCQ Option Shuffling : Yes
Correct Marks : 1 Wrong Marks : 0.25

Identify the segment in the sentence which contains the grammatical error from the given options.

Self-care, which most happens outside the formal health system, is nothing new.

Options :

1. ✓ Self-care, which most
2. ✗ happens outside the
3. ✗ formal health system,
4. ✗ is nothing new.

Question Number : 125 Question Id : 54592724971 Question Type : MCQ Option Shuffling : Yes
Correct Marks : 1 Wrong Marks : 0.25

Identify the segment in the sentence which contains the grammatical error from the given options.

According to the WHO, over 400 million across the world already lack access for essential health services.

Options :

1. ✗ According to the WHO
2. ✗ over 400 million across
3. ✗ the world already lack
4. ✓ access for essential

Question Number : 125 Question Id : 54592724971 Question Type : MCQ Option Shuffling : Yes
Correct Marks : 1 Wrong Marks : 0.25

Identify the segment in the sentence which contains the grammatical error from the given options.

According to the WHO, over 400 million across the world already lack access for essential health services.

Options :

1. ✖ According to the WHO
2. ✖ over 400 million across
3. ✖ the world already lack
4. ✔ access for essential

Question Number : 126 Question Id : 54592724972 Question Type : MCQ Option Shuffling : Yes
Correct Marks : 1 Wrong Marks : 0.25

Select the most appropriate option to substitute the underlined segment in the given sentence. If there is no need to substitute it, select option No substitution required.

The Budget for a New India has a roadmap for transformed the agriculture sector of the country.

Options :

1. ✔ to transform
2. ✖ to transforming
3. ✖ to transformed
4. ✖ No substitution required

Question Number : 126 Question Id : 54592724972 Question Type : MCQ Option Shuffling : Yes
Correct Marks : 1 Wrong Marks : 0.25

Select the most appropriate option to substitute the underlined segment in the given sentence. If there is no need to substitute it, select option No substitution required.

The Budget for a New India has a roadmap for transformed the agriculture sector of the country.

Options :

1. ✓ to transform
2. ✗ to transforming
3. ✗ to transformed
4. ✗ No substitution required

Question Number : 127 Question Id : 54592724973 Question Type : MCQ Option Shuffling : Yes
Correct Marks : 1 Wrong Marks : 0.25

Select the most appropriate option to substitute the underlined segment in the given sentence. If there is no need to substitute it, select option No substitution required.

The budget beside being a policy document for boosting growth, serves the larger interest of all sectors of the economy.

Options :

1. ✗ beside a
2. ✓ besides being a
3. ✗ besides been a
4. ✗ No substitution required

Question Number : 127 Question Id : 54592724973 Question Type : MCQ Option Shuffling : Yes

Correct Marks : 1 Wrong Marks : 0.25

Select the most appropriate option to substitute the underlined segment in the given sentence. If there is no need to substitute it, select option No substitution required.

The budget beside being a policy document for boosting growth, serves the larger interest of all sectors of the economy.

Options :

1. ✘ beside a
2. ✔ besides being a
3. ✘ besides been a
4. ✘ No substitution required

Question Number : 128 Question Id : 54592724974 Question Type : MCQ Option Shuffling : Yes

Correct Marks : 1 Wrong Marks : 0.25

Select the most appropriate option to substitute the underlined segment in the given sentence. If there is no need to substitute it, select option No substitution required.

Companies having annual turnover of Rs 400 crore, will requires to pay 25 percent of their income as tax.

Options :

1. ✘ will requiring to pay

2. ✖ will require pay

3. ✔ will be required to pay

4. ✖ No substitution required

Question Number : 128 Question Id : 54592724974 Question Type : MCQ Option Shuffling : Yes
Correct Marks : 1 Wrong Marks : 0.25

Select the most appropriate option to substitute the underlined segment in the given sentence. If there is no need to substitute it, select option No substitution required.

Companies having annual turnover of Rs 400 crore, will requires to pay 25 percent of their income as tax.

Options :

1. ✖ will requiring to pay

2. ✖ will require pay

3. ✔ will be required to pay

4. ✖ No substitution required

Question Number : 129 Question Id : 54592724975 Question Type : MCQ Option Shuffling : Yes
Correct Marks : 1 Wrong Marks : 0.25

Select the most appropriate option to substitute the underlined segment in the given sentence. If there is no need to substitute it, select option No substitution required.

Nutrition is another important factor to consider when deciding whether or not to feed wildlife.

Options :

1. ✖ whether if
2. ✖ whether to
3. ✖ if or whether
4. ✔ No substitution required

Question Number : 129 Question Id : 54592724975 Question Type : MCQ Option Shuffling : Yes
Correct Marks : 1 Wrong Marks : 0.25

Select the most appropriate option to substitute the underlined segment in the given sentence. If there is no need to substitute it, select option No substitution required.

Nutrition is another important factor to consider when deciding whether or not to feed wildlife.

Options :

1. ✖ whether if
2. ✖ whether to
3. ✖ if or whether
4. ✔ No substitution required

Question Number : 130 Question Id : 54592724976 Question Type : MCQ Option Shuffling : Yes
Correct Marks : 1 Wrong Marks : 0.25

Select the most appropriate option to substitute the underlined segment in the given sentence. If there is no need to substitute it, select option No substitution required.

As many as 17 iconic sites will be built in the country to give a boost to the travel and tourism sector.

Options :

1. ✓ across the country
2. ✗ around the countries
3. ✗ inside the country
4. ✗ No substitution required

Question Number : 130 Question Id : 54592724976 Question Type : MCQ Option Shuffling : Yes
Correct Marks : 1 Wrong Marks : 0.25

Select the most appropriate option to substitute the underlined segment in the given sentence. If there is no need to substitute it, select option No substitution required.

As many as 17 iconic sites will be built in the country to give a boost to the travel and tourism sector.

Options :

1. ✓ across the country
2. ✗ around the countries
3. ✗ inside the country
4. ✗ No substitution required

Question Number : 131 Question Id : 54592724977 Question Type : MCQ Option Shuffling : Yes
Correct Marks : 1 Wrong Marks : 0.25

Select the most appropriate word to fill in the blank.

Earthquakes are naturally destructive _____ of our planet's constantly changing surface.

Options :

1. ✓ effects
2. ✗ affects
3. ✗ effect
4. ✗ affect

Question Number : 131 Question Id : 54592724977 Question Type : MCQ Option Shuffling : Yes
Correct Marks : 1 Wrong Marks : 0.25

Select the most appropriate word to fill in the blank.

Earthquakes are naturally destructive _____ of our planet's constantly changing surface.

Options :

1. ✓ effects
2. ✗ affects
3. ✗ effect

4. ✖ affect

Question Number : 132 Question Id : 54592724978 Question Type : MCQ Option Shuffling : Yes
Correct Marks : 1 Wrong Marks : 0.25

Select the most appropriate word to fill in the blank.

Russia is the top contender _____ countries that could help cut emissions by planting new forests.

Options :

1. ✖ between
2. ✔ among
3. ✖ across
4. ✖ above

Question Number : 132 Question Id : 54592724978 Question Type : MCQ Option Shuffling : Yes
Correct Marks : 1 Wrong Marks : 0.25

Select the most appropriate word to fill in the blank.

Russia is the top contender _____ countries that could help cut emissions by planting new forests.

Options :

1. ✖ between
2. ✔ among
3. ✖ across
4. ✖ above

Question Number : 133 Question Id : 54592724979 Question Type : MCQ Option Shuffling : Yes

Correct Marks : 1 Wrong Marks : 0.25

Select the most appropriate word to fill in the blank.

A study shows clearly that forest restoration is _____
climate change solution available today.

Options :

1. ✖ good

2. ✖ better

3. ✔ the best

4. ✖ more better

Question Number : 133 Question Id : 54592724979 Question Type : MCQ Option Shuffling : Yes

Correct Marks : 1 Wrong Marks : 0.25

Select the most appropriate word to fill in the blank.

A study shows clearly that forest restoration is _____
climate change solution available today.

Options :

1. ✖ good

2. ✖ better

3. ✔ the best

4. ✖ more better

Question Number : 134 Question Id : 54592724980 Question Type : MCQ Option Shuffling : Yes

Correct Marks : 1 Wrong Marks : 0.25

Select the most appropriate word to fill in the blank.

Trees use the energy of sunlight, and _____ the process of photosynthesis they take carbon dioxide.

Options :

1. ✘ thorough
2. ✘ in
3. ✘ by
4. ✔ through

Question Number : 134 Question Id : 54592724980 Question Type : MCQ Option Shuffling : Yes

Correct Marks : 1 Wrong Marks : 0.25

Select the most appropriate word to fill in the blank.

Trees use the energy of sunlight, and _____ the process of photosynthesis they take carbon dioxide.

Options :

1. ✘ thorough
2. ✘ in
3. ✘ by
4. ✔ through

Question Number : 135 Question Id : 54592724981 Question Type : MCQ Option Shuffling : Yes

Correct Marks : 1 Wrong Marks : 0.25

Select the most appropriate word to fill in the blank.

Every 27.3 days, the moon makes its way _____ our planet while also completing one turn on its axis.

Options :

1. ✓ around
2. ✗ across
3. ✗ above
4. ✗ below

Question Number : 135 Question Id : 54592724981 Question Type : MCQ Option Shuffling : Yes
Correct Marks : 1 Wrong Marks : 0.25

Select the most appropriate word to fill in the blank.

Every 27.3 days, the moon makes its way _____ our planet while also completing one turn on its axis.

Options :

1. ✓ around
2. ✗ across
3. ✗ above
4. ✗ below

Question Number : 136 Question Id : 54592724982 Question Type : MCQ Option Shuffling : Yes
Correct Marks : 1 Wrong Marks : 0.25

Select the most appropriate word to fill in the blank.

One of the most striking features of the moon is craters punched _____ its surface.

Options :

1. ✘ on

2. ✔ into

3. ✘ by

4. ✘ at

Question Number : 136 Question Id : 54592724982 Question Type : MCQ Option Shuffling : Yes

Correct Marks : 1 Wrong Marks : 0.25

Select the most appropriate word to fill in the blank.

One of the most striking features of the moon is craters punched _____ its surface.

Options :

1. ✘ on

2. ✔ into

3. ✘ by

4. ✘ at

Question Number : 137 Question Id : 54592724983 Question Type : MCQ Option Shuffling : Yes

Correct Marks : 1 Wrong Marks : 0.25

Select the most appropriate word to fill in the blank.

The temperature in the Arctic is rising twice _____ the global average.

Options :

1. ✖ the fast
2. ✖ fast like
3. ✔ as fast as
4. ✖ and fast as

Question Number : 137 Question Id : 54592724983 Question Type : MCQ Option Shuffling : Yes
Correct Marks : 1 Wrong Marks : 0.25

Select the most appropriate word to fill in the blank.

The temperature in the Arctic is rising twice _____ the global average.

Options :

1. ✖ the fast
2. ✖ fast like
3. ✔ as fast as
4. ✖ and fast as

Question Number : 138 Question Id : 54592724984 Question Type : MCQ Option Shuffling : Yes
Correct Marks : 1 Wrong Marks : 0.25

Select the most appropriate word to fill in the blank.

Anyone can plant a tree and we can start _____ it tomorrow.

Options :

1. ✘ do
2. ✘ done
3. ✘ did
4. ✔ doing

Question Number : 138 Question Id : 54592724984 Question Type : MCQ Option Shuffling : Yes
Correct Marks : 1 Wrong Marks : 0.25

Select the most appropriate word to fill in the blank.

Anyone can plant a tree and we can start _____ it tomorrow.

Options :

1. ✘ do
2. ✘ done
3. ✘ did
4. ✔ doing

Question Number : 139 Question Id : 54592724985 Question Type : MCQ Option Shuffling : Yes
Correct Marks : 1 Wrong Marks : 0.25

Rearrange the following sentences in their correct order to form a meaningful paragraph.

A: It formed some 4.5 billion years ago, when the solar system was in its beginning.

B: It has circled our planet for billions of years.

C: But its position in modern night skies stems from a tumultuous past.

D: The moon, earth's sole natural satellite, is our constant companion.

Options :

1. ✓ **DBCA**

2. ✗ **DBAC**

3. ✗ **ACBD**

4. ✗ **ACDB**

Question Number : 139 Question Id : 54592724985 Question Type : MCQ Option Shuffling : Yes

Correct Marks : 1 Wrong Marks : 0.25

Rearrange the following sentences in their correct order to form a meaningful paragraph.

A: It formed some 4.5 billion years ago, when the solar system was in its beginning.

B: It has circled our planet for billions of years.

C: But its position in modern night skies stems from a tumultuous past.

D: The moon, earth's sole natural satellite, is our constant companion.

Options :

1. ✓ DBCA

2. ✗ DBAC

3. ✗ ACBD

4. ✗ ACDB

Question Number : 140 Question Id : 54592724986 Question Type : MCQ Option Shuffling : Yes

Correct Marks : 1 Wrong Marks : 0.25

A sentence has four parts, rearrange the given parts so as to form a meaningful sentence.

A: the planets and asteroids in our solar

B: system, and Earth's moon is

C: There are more than 190 moons orbiting

D: the fifth largest of the lot.

Options :

1. ✘ CADB

2. ✔ CABD

3. ✘ ABDC

4. ✘ ABCD

Question Number : 140 Question Id : 54592724986 Question Type : MCQ Option Shuffling : Yes

Correct Marks : 1 Wrong Marks : 0.25

A sentence has four parts, rearrange the given parts so as to form a meaningful sentence.

A: the planets and asteroids in our solar

B: system, and Earth's moon is

C: There are more than 190 moons orbiting

D: the fifth largest of the lot.

Options :

1. ✘ CADB

2. ✔ CABD

3. ✘ ABDC

4. ✘ ABCD

General English2

Group Number :	8
Group Id :	5459271238
Group Maximum Duration :	0
Group Minimum Duration :	0
Show Attended Group? :	No
Edit Attended Group? :	No
Break time:	0
Group Marks:	20

Is this Group for Examiner?:	No
Revisit allowed for group Instructions? :	Yes
Maximum Instruction Time:	0
Minimum Instruction Time:	0

General English2

Section Id :	5459271238
Section Number :	1
Section type :	Online
Mandatory or Optional:	Mandatory
Number of Questions:	16
Number of Questions to be attempted:	16
Section Marks:	20

Sub-Section Number:	1
Sub-Section Id:	5459271484
Question Shuffling Allowed :	Yes

Question Number : 141 Question Id : 54592724987 Question Type : MCQ Option Shuffling : Yes
Correct Marks : 1 Wrong Marks : 0.25

Rearrange the following sentences in their correct order to form a meaningful paragraph.

- A: That trip—possible only because of drastically melted ice—inspired Ousland’s current project.
- B: Polar explorer Borge Ousland has been making history in the Arctic for a quarter century.
- C: He and fellow explorer Mike Horn then became the first people to ski unsupported to the North Pole.
- D: In 1994 and 1996, the Norwegian was the first person to ski alone without resupply to the North Pole and across Antarctica.

Options :

1. ✖ BDAC
2. ✖ BCDA
3. ✔ BDCA

4. ✖ BCAD

Question Number : 141 Question Id : 54592724987 Question Type : MCQ Option Shuffling : Yes
Correct Marks : 1 Wrong Marks : 0.25

Rearrange the following sentences in their correct order to form a meaningful paragraph.

A: That trip—possible only because of drastically melted ice—inspired Ousland’s current project.

B: Polar explorer Borge Ousland has been making history in the Arctic for a quarter century.

C: He and fellow explorer Mike Horn then became the first people to ski unsupported to the North Pole.

D: In 1994 and 1996, the Norwegian was the first person to ski alone without resupply to the North Pole and across Antarctica.

Options :

1. ✖ BDAC

2. ✖ BCDA

3. ✔ BDCA

4. ✖ BCAD

Question Number : 142 Question Id : 54592724988 Question Type : MCQ Option Shuffling : Yes
Correct Marks : 1 Wrong Marks : 0.25

Select the synonym of the given word.

Frigid

Options :

1. ✓ Freezing

2. ✗ Humid

3. ✗ Hooked

4. ✗ Mild

Question Number : 142 Question Id : 54592724988 Question Type : MCQ Option Shuffling : Yes
Correct Marks : 1 Wrong Marks : 0.25

Select the synonym of the given word.

Frigid

Options :

1. ✓ Freezing

2. ✗ Humid

3. ✗ Hooked

4. ✗ Mild

Question Number : 143 Question Id : 54592724989 Question Type : MCQ Option Shuffling : Yes
Correct Marks : 1 Wrong Marks : 0.25

Select the antonym of the given word.

Appreciate

Options :

1. ✗ Interested

2. ✓ Depreciate

3. ✗ Contrast

4. ✗ Unbiased

Question Number : 143 Question Id : 54592724989 Question Type : MCQ Option Shuffling : Yes
Correct Marks : 1 Wrong Marks : 0.25

Select the antonym of the given word.

Appreciate

Options :

1. ✖ Interested
2. ✔ Depreciate
3. ✖ Contrast
4. ✖ Unbiased

Question Number : 144 Question Id : 54592724990 Question Type : MCQ Option Shuffling : Yes
Correct Marks : 1 Wrong Marks : 0.25

Select the synonym of the given word.

Distinguished

Options :

1. ✖ Typical
2. ✖ Standard
3. ✔ Esteemed
4. ✖ Lowly

Question Number : 144 Question Id : 54592724990 Question Type : MCQ Option Shuffling : Yes
Correct Marks : 1 Wrong Marks : 0.25

Select the synonym of the given word.

Distinguished

Options :

1. ✖ Typical

2. ✖ Standard

3. ✔ Esteemed

4. ✖ Lowly

Question Number : 145 Question Id : 54592724991 Question Type : MCQ Option Shuffling : Yes
Correct Marks : 1 Wrong Marks : 0.25

Select the antonym of the given word.

Stupefy

Options :

1. ✔ Enliven

2. ✖ Command

3. ✖ Declare

4. ✖ Consume

Question Number : 145 Question Id : 54592724991 Question Type : MCQ Option Shuffling : Yes
Correct Marks : 1 Wrong Marks : 0.25

Select the antonym of the given word.

Stupefy

Options :

1. ✔ Enliven

2. ✖ Command

3. ✖ Declare

4. ✖ Consume

Question Number : 146 Question Id : 54592724992 Question Type : MCQ Option Shuffling : Yes
Correct Marks : 1 Wrong Marks : 0.25

Select the synonym of the given word.

Erroneous

Options :

1. ✘ Gloomy
2. ✔ Mistaken
3. ✘ Utilize
4. ✘ Unsuitable

Question Number : 146 Question Id : 54592724992 Question Type : MCQ Option Shuffling : Yes
Correct Marks : 1 Wrong Marks : 0.25

Select the synonym of the given word.

Erroneous

Options :

1. ✘ Gloomy
2. ✔ Mistaken
3. ✘ Utilize
4. ✘ Unsuitable

Question Number : 147 Question Id : 54592724993 Question Type : MCQ Option Shuffling : Yes
Correct Marks : 1 Wrong Marks : 0.25

Select the wrongly spelt word.

Options :

1. ✔ Palette

2. ✖ Saffron
3. ✖ Parity
4. ✖ Stagnation

Question Number : 147 Question Id : 54592724993 Question Type : MCQ Option Shuffling : Yes
Correct Marks : 1 Wrong Marks : 0.25

Select the wrongly spelt word.

Options :

1. ✔ Palette
2. ✖ Saffron
3. ✖ Parity
4. ✖ Stagnation

Question Number : 148 Question Id : 54592724994 Question Type : MCQ Option Shuffling : Yes
Correct Marks : 1 Wrong Marks : 0.25

Select the wrongly spelt word.

Options :

1. ✖ Diplomatic
2. ✔ Luxurience
3. ✖ Diversity
4. ✖ Jaundice

Question Number : 148 Question Id : 54592724994 Question Type : MCQ Option Shuffling : Yes
Correct Marks : 1 Wrong Marks : 0.25

Select the wrongly spelt word.

Options :

1. ✖ Diplomatic
2. ✔ Luxurience
3. ✖ Diversity
4. ✖ Jaundice

Question Number : 149 Question Id : 54592724995 Question Type : MCQ Option Shuffling : Yes
Correct Marks : 1 Wrong Marks : 0.25

Select the wrongly spelt word.

Options :

1. ✖ Distinction
2. ✖ Exhaustion
3. ✔ Ambassador
4. ✖ Publicity

Question Number : 149 Question Id : 54592724995 Question Type : MCQ Option Shuffling : Yes
Correct Marks : 1 Wrong Marks : 0.25

Select the wrongly spelt word.

Options :

1. ✖ Distinction
2. ✖ Exhaustion

3. ✓ Ambassador

4. ✗ Publicity

Question Number : 150 Question Id : 54592724996 Question Type : MCQ Option Shuffling : Yes
Correct Marks : 1 Wrong Marks : 0.25

Select the meaning of the given idiom.

On the same page

Options :

1. ✓ Thinking in the same manner

2. ✗ At the same place

3. ✗ In a disagreement

4. ✗ In a dispute

Question Number : 150 Question Id : 54592724996 Question Type : MCQ Option Shuffling : Yes
Correct Marks : 1 Wrong Marks : 0.25

Select the meaning of the given idiom.

On the same page

Options :

1. ✓ Thinking in the same manner

2. ✗ At the same place

3. ✗ In a disagreement

4. ✗ In a dispute

Question Number : 151 Question Id : 54592724997 Question Type : MCQ Option Shuffling : Yes
Correct Marks : 1 Wrong Marks : 0.25

Select the meaning of the given idiom.

Eat like a horse

Options :

1. ✖ To be insulted
2. ✔ Eat in large quantities
3. ✖ To lie
4. ✖ To be on a diet

Question Number : 151 Question Id : 54592724997 Question Type : MCQ Option Shuffling : Yes
Correct Marks : 1 Wrong Marks : 0.25

Select the meaning of the given idiom.

Eat like a horse

Options :

1. ✖ To be insulted
2. ✔ Eat in large quantities
3. ✖ To lie
4. ✖ To be on a diet

Question Number : 152 Question Id : 54592724998 Question Type : MCQ Option Shuffling : Yes
Correct Marks : 1 Wrong Marks : 0.25

Select the meaning of the given idiom.

Skate on thin ice

Options :

1. ✖ To be fearful

2. ✖ To be careful
3. ✔ In a risky situation
4. ✖ Lacking in strength

Question Number : 152 Question Id : 54592724998 Question Type : MCQ Option Shuffling : Yes
Correct Marks : 1 Wrong Marks : 0.25

Select the meaning of the given idiom.

Skate on thin ice

Options :

1. ✖ To be fearful
2. ✖ To be careful
3. ✔ In a risky situation
4. ✖ Lacking in strength

Question Number : 153 Question Id : 54592724999 Question Type : MCQ Option Shuffling : Yes
Correct Marks : 1 Wrong Marks : 0.25

Select the word which means the same as the group of words given.

A plan for carrying out a process or procedure

Options :

1. ✔ Schedule
2. ✖ Excerpt
3. ✖ Agenda
4. ✖ Manifesto

Question Number : 153 Question Id : 54592724999 Question Type : MCQ Option Shuffling : Yes

Correct Marks : 1 Wrong Marks : 0.25

Select the word which means the same as the group of words given.

A plan for carrying out a process or procedure

Options :

1. ✓ Schedule
2. ✗ Excerpt
3. ✗ Agenda
4. ✗ Manifesto

Question Number : 154 Question Id : 54592725000 Question Type : MCQ Option Shuffling : Yes
Correct Marks : 1 Wrong Marks : 0.25

Select the word which means the same as the group of words given.

A principle or standard by which something may be judged or decided.

Options :

1. ✗ Horizon
2. ✓ Criterion
3. ✗ Podium
4. ✗ Mosaic

Question Number : 154 Question Id : 54592725000 Question Type : MCQ Option Shuffling : Yes
Correct Marks : 1 Wrong Marks : 0.25

Select the word which means the same as the group of words given.

A principle or standard by which something may be judged or decided.

Options :

1. ✖ Horizon
2. ✔ Criterion
3. ✖ Podium
4. ✖ Mosaic

Question Number : 155 Question Id : 54592725001 Question Type : MCQ Option Shuffling : Yes
Correct Marks : 1 Wrong Marks : 0.25

Select the word which means the same as the group of words given.

A medical practitioner qualified to diagnose and treat skin disorders.

Options :

1. ✖ Cardiologist
2. ✖ Zoologist
3. ✔ Dermatologist
4. ✖ Astrologist

Question Number : 155 Question Id : 54592725001 Question Type : MCQ Option Shuffling : Yes
Correct Marks : 1 Wrong Marks : 0.25

Select the word which means the same as the group of words given.

A medical practitioner qualified to diagnose and treat skin disorders.

Options :

1. ✘ Cardiologist
2. ✘ Zoologist
3. ✔ Dermatologist
4. ✘ Astrologist

Sub-Section Number:	2
Sub-Section Id:	5459271485
Question Shuffling Allowed :	Yes

Question Id : 54592725002 Question Type : COMPREHENSION Sub Question Shuffling Allowed : Yes Group Comprehension Questions : No

Question Numbers : (156 to 160)

Question Label : Comprehension

Answer the questions based on the following passage.

Children have to be active every day. Physical activity stimulates growth and leads to improved physical and emotional health. Today, research shows that the importance of physical activity in children is stronger than ever. For example, medical researchers have observed that highly active children are less likely to suffer from high blood pressure, diabetes, cancer of the colon, obesity, and coronary heart disease later in life.

Exercise is also known to relieve stress. Some children experience as much stress, depression, and anxiety as adults do. And because exercise improves health, a fit child is more likely to be well-rested and mentally sharp. Even moderate physical activity has been shown to improve a child's skill at arithmetic, reading, and memorization.

But sport, not just exercise, gives a child more than just physical well-being; it contributes to a child's development both psychologically and socially. Sport psychologist Dr. Glyn Roberts of the University of Illinois has worked primarily in children's sport for the last two decades. He emphasizes that sport is an important learning environment for children.

"Sport can affect a child's development of self-esteem and self-worth," explains Roberts. "It is also within sport that peer status and peer acceptance is established and developed."

One way children gain acceptance by their peers is to be good at activities valued by other children, says Roberts. Research shows that children would rather play sports than do anything else. A study conducted in the United States showed that high school boys and girls would rather be better at sports than in academic subjects. The same study showed that high school boys would rather fail in class than be incompetent on the playing field.

Because sport is important to children, being good at sports is a strong social asset. Young boys in particular use sports and games to measure themselves against their friends. Children who are competent at sports are more easily accepted by children of their own age, and are more likely to be team captains and group leaders. Such children usually have better social skills.

The primary goal of parents and coaches is to help children find the success in sport they need to make them feel valued and wanted. Every child can be successful at one sport or another. Take the time to find the sports that are right for each child.

Sub questions

Question Number : 156 Question Id : 54592725003 Question Type : MCQ Option Shuffling : Yes
Correct Marks : 1 Wrong Marks : 0.25

The author in the passage discusses:

Options :

1. ✓ Importance of sport for children.
2. ✗ Physical Activity
3. ✗ Ways to reduce stress
4. ✗ Social skills and children

Question Number : 157 Question Id : 54592725004 Question Type : MCQ Option Shuffling : Yes
Correct Marks : 1 Wrong Marks : 0.25

Which of the following statements is not true in the context of the passage?

Options :

1. ✗ Children who are highly active are less likely to suffer from physical ailments.
2. ✓ Sport has no impact on a child's self-esteem and self-worth.
3. ✗ Exercise relieves stress.
4. ✗ Sport contributes to psychological and social well-being.

Question Number : 158 Question Id : 54592725005 Question Type : MCQ Option Shuffling : Yes
Correct Marks : 1 Wrong Marks : 0.25

Which of the following options has not been stated in the passage as a merit of physical exercise?

Options :

1. ✗ It relieves stress.

2. ✖ It improves health.
3. ✔ It is a strong social asset.
4. ✖ It improves reading and memorization.

Question Number : 159 Question Id : 54592725006 Question Type : MCQ Option Shuffling : Yes
Correct Marks : 1 Wrong Marks : 0.25

Why does the author say that being good at sports is a strong social asset?

Options :

1. ✖ Every child can be good at one sport or another.
2. ✖ It helps in establishing and developing peer status and peer acceptance.
3. ✖ Children would rather be better at sports than in academic subjects.
4. ✔ It enhances the social skills of children.

Question Number : 160 Question Id : 54592725007 Question Type : MCQ Option Shuffling : Yes
Correct Marks : 1 Wrong Marks : 0.25

From the given options, choose the one which is most nearly similar in meaning to the word 'stimulate' as used in the 1st paragraph, 2nd line in the passage:

Options :

1. ✔ Encourage
2. ✖ Provoke
3. ✖ Moderate
4. ✖ Establish

Question Id : 54592725002 Question Type : COMPREHENSION Sub Question Shuffling Allowed : Yes Group Comprehension Questions : No
Question Numbers : (156 to 160)

Question Label : Comprehension

Answer the questions based on the following passage.

Children have to be active every day. Physical activity stimulates growth and leads to improved physical and emotional health. Today, research shows that the importance of physical activity in children is stronger than ever. For example, medical researchers have observed that highly active children are less likely to suffer from high blood pressure, diabetes, cancer of the colon, obesity, and coronary heart disease later in life.

Exercise is also known to relieve stress. Some children experience as much stress, depression, and anxiety as adults do. And because exercise improves health, a fit child is more likely to be well-rested and mentally sharp. Even moderate physical activity has been shown to improve a child's skill at arithmetic, reading, and memorization.

But sport, not just exercise, gives a child more than just physical well-being; it contributes to a child's development both psychologically and socially. Sport psychologist Dr. Glyn Roberts of the University of Illinois has worked primarily in children's sport for the last two decades. He emphasizes that sport is an important learning environment for children.

"Sport can affect a child's development of self-esteem and self-worth," explains Roberts. "It is also within sport that peer status and peer acceptance is established and developed."

One way children gain acceptance by their peers is to be good at activities valued by other children, says Roberts. Research shows that children would rather play sports than do anything else. A study conducted in the United States showed that high school boys and girls would rather be better at sports than in academic subjects. The same study showed that high school boys would rather fail in class than be incompetent on the playing field.

Because sport is important to children, being good at sports is a strong social asset. Young boys in particular use sports and games to measure themselves against their friends. Children who are competent at sports are more easily accepted by children of their own age, and are more likely to be team captains and group leaders. Such children usually have better social skills.

The primary goal of parents and coaches is to help children find the success in sport they need to make them feel valued and wanted. Every child can be successful at one sport or another. Take the time to find the sports that are right for each child.

Sub questions

Question Number : 156 Question Id : 54592725003 Question Type : MCQ Option Shuffling : Yes
Correct Marks : 1 Wrong Marks : 0.25

The author in the passage discusses:

Options :

1. ✓ Importance of sport for children.
2. ✗ Physical Activity
3. ✗ Ways to reduce stress
4. ✗ Social skills and children

Question Number : 157 Question Id : 54592725004 Question Type : MCQ Option Shuffling : Yes
Correct Marks : 1 Wrong Marks : 0.25

Which of the following statements is not true in the context of the passage?

Options :

1. ✗ Children who are highly active are less likely to suffer from physical ailments.
2. ✓ Sport has no impact on a child's self-esteem and self-worth.
3. ✗ Exercise relieves stress.
4. ✗ Sport contributes to psychological and social well-being.

Question Number : 158 Question Id : 54592725005 Question Type : MCQ Option Shuffling : Yes
Correct Marks : 1 Wrong Marks : 0.25

Which of the following options has not been stated in the passage as a merit of physical exercise?

Options :

1. ✖ It relieves stress.
2. ✖ It improves health.
3. ✔ It is a strong social asset.
4. ✖ It improves reading and memorization.

Question Number : 159 Question Id : 54592725006 Question Type : MCQ Option Shuffling : Yes
Correct Marks : 1 Wrong Marks : 0.25

Why does the author say that being good at sports is a strong social asset?

Options :

1. ✖ Every child can be good at one sport or another.
2. ✖ It helps in establishing and developing peer status and peer acceptance.
3. ✖ Children would rather be better at sports than in academic subjects.
4. ✔ It enhances the social skills of children.

Question Number : 160 Question Id : 54592725007 Question Type : MCQ Option Shuffling : Yes
Correct Marks : 1 Wrong Marks : 0.25

From the given options, choose the one which is most nearly similar in meaning to the word 'stimulate' as used in the 1st paragraph, 2nd line in the passage:

Options :

1. ✓ Encourage
2. ✗ Provoke
3. ✗ Moderate
4. ✗ Establish

General Hindi1

Group Number :	9
Group Id :	5459271239
Group Maximum Duration :	0
Group Minimum Duration :	0
Show Attended Group? :	No
Edit Attended Group? :	No
Break time:	0
Group Marks:	20
Is this Group for Examiner?:	No
Revisit allowed for group Instructions? :	Yes
Maximum Instruction Time:	0
Minimum Instruction Time:	0

General Hindi1

Section Id :	5459271239
Section Number :	1
Section type :	Online
Mandatory or Optional:	Mandatory
Number of Questions:	20
Number of Questions to be attempted:	20
Section Marks:	20

Sub-Section Number: 1
Sub-Section Id: 5459271486
Question Shuffling Allowed : Yes

Question Number : 161 Question Id : 54592725008 Question Type : MCQ Option Shuffling : Yes
Correct Marks : 1 Wrong Marks : 0.25

अभ्युदय का संधि विच्छेद क्या होगा?

Options :

1. * अभयु + दय
2. ✓ अभि + उदय
3. * अभी + उदय
4. * अभ्यु+ उदय

Question Number : 161 Question Id : 54592725008 Question Type : MCQ Option Shuffling : Yes
Correct Marks : 1 Wrong Marks : 0.25

अभ्युदय का संधि विच्छेद क्या होगा?

Options :

1. * अभयु + दय
2. ✓ अभि + उदय
3. * अभी + उदय
4. * अभ्यु+ उदय

Question Number : 162 Question Id : 54592725009 Question Type : MCQ Option Shuffling : Yes
Correct Marks : 1 Wrong Marks : 0.25

निम्नलिखित में से कौन-सा अव्ययीभाव समास का उदाहरण है?

Options :

1. ✓ आद्योपान्त
2. * कठखोदवा
3. * नवयुवक
4. * छमाही

Question Number : 162 Question Id : 54592725009 Question Type : MCQ Option Shuffling : Yes
Correct Marks : 1 Wrong Marks : 0.25

निम्नलिखित में से कौन-सा अव्ययीभाव समास का उदाहरण है?

Options :

1. ✓ आद्योपान्त

2. ✘ कठखोदवा

3. ✘ नवयुवक

4. ✘ छमाही

Question Number : 163 Question Id : 54592725010 Question Type : MCQ Option Shuffling : Yes
Correct Marks : 1 Wrong Marks : 0.25

निम्न में से तत्सम शब्द का चयन करें।

Options :

1. ✘ कुम्हार

2. ✘ लोग

3. ✘ हँसी

4. ✓ कुंभकार

Question Number : 163 Question Id : 54592725010 Question Type : MCQ Option Shuffling : Yes
Correct Marks : 1 Wrong Marks : 0.25

निम्न में से तत्सम शब्द का चयन करें।

Options :

1. ✘ कुम्हार

2. ✘ लोग

3. ✘ हँसी

4. ✓ कुंभकार

Question Number : 164 Question Id : 54592725011 Question Type : MCQ Option Shuffling : Yes
Correct Marks : 1 Wrong Marks : 0.25

अंतर्राष्ट्रीय में प्रयुक्त उपसर्ग का चयन करें।

Options :

1. ✘ अ

2. ✘ अंतरा

3. ✓ अंतर

4. * राष्ट्रीय

Question Number : 164 Question Id : 54592725011 Question Type : MCQ Option Shuffling : Yes
Correct Marks : 1 Wrong Marks : 0.25

अंतर्राष्ट्रीय में प्रयुक्त उपसर्ग का चयन करें।

Options :

1. * अ
2. * अंतरा
3. ✓ अंतर
4. * राष्ट्रीय

Question Number : 165 Question Id : 54592725012 Question Type : MCQ Option Shuffling : Yes
Correct Marks : 1 Wrong Marks : 0.25

मुख्य क्रिया और सहायक क्रिया ये दोनों किस क्रिया के अंतर्गत आती हैं?

Options :

1. * पूर्वकालिक
2. * सामान्य
3. ✓ संयुक्त
4. * यौगिक

Question Number : 165 Question Id : 54592725012 Question Type : MCQ Option Shuffling : Yes
Correct Marks : 1 Wrong Marks : 0.25

मुख्य क्रिया और सहायक क्रिया ये दोनों किस क्रिया के अंतर्गत आती हैं?

Options :

1. * पूर्वकालिक
2. * सामान्य
3. ✓ संयुक्त
4. * यौगिक

Question Number : 166 Question Id : 54592725013 Question Type : MCQ Option Shuffling : Yes
Correct Marks : 1 Wrong Marks : 0.25

निम्नलिखित में से “विश्राम” किस शब्द का विलोम शब्द है?

Options :

1. * चुस्त
2. * क्षमा
3. * ऋणी
4. ✓ श्रम

Question Number : 166 Question Id : 54592725013 Question Type : MCQ Option Shuffling : Yes

Correct Marks : 1 Wrong Marks : 0.25

निम्नलिखित में से “विश्राम” किस शब्द का विलोम शब्द है?

Options :

1. * चुस्त
2. * क्षमा
3. * ऋणी
4. ✓ श्रम

Question Number : 167 Question Id : 54592725014 Question Type : MCQ Option Shuffling : Yes

Correct Marks : 1 Wrong Marks : 0.25

दिए गए वाक्य के लिए एक शब्द का चयन करें।

“जिसका वर्णन न हो सके”

Options :

1. * वर्णनीय
2. ✓ अवर्णनीय
3. * अनिवार्य
4. * अनुकरणीय

Question Number : 167 Question Id : 54592725014 Question Type : MCQ Option Shuffling : Yes

Correct Marks : 1 Wrong Marks : 0.25

दिए गए वाक्य के लिए एक शब्द का चयन करें।

“जिसका वर्णन न हो सके”

Options :

1. ✖ वर्णनीय
2. ✔ अवर्णनीय
3. ✖ अनिवार्य
4. ✖ अनुकरणीय

Question Number : 168 Question Id : 54592725015 Question Type : MCQ Option Shuffling : Yes
Correct Marks : 1 Wrong Marks : 0.25

बेमेल (असंगत) शब्द का चयन करें।

Options :

1. ✖ बिलखना
2. ✖ विलाप
3. ✔ सन्ताप
4. ✖ रूदन

Question Number : 168 Question Id : 54592725015 Question Type : MCQ Option Shuffling : Yes
Correct Marks : 1 Wrong Marks : 0.25

बेमेल (असंगत) शब्द का चयन करें।

Options :

1. ✖ बिलखना
2. ✖ विलाप
3. ✔ सन्ताप
4. ✖ रूदन

Question Number : 169 Question Id : 54592725016 Question Type : MCQ Option Shuffling : Yes
Correct Marks : 1 Wrong Marks : 0.25

झील का पर्यायवाची शब्द है।

Options :

1. ✓ कासार

2. ✘ आतप

3. ✘ तारिणी

4. ✘ वासर

Question Number : 169 Question Id : 54592725016 Question Type : MCQ Option Shuffling : Yes
Correct Marks : 1 Wrong Marks : 0.25

झील का पर्यायवाची शब्द है।

Options :

1. ✓ कासार

2. ✘ आतप

3. ✘ तारिणी

4. ✘ वासर

Question Number : 170 Question Id : 54592725017 Question Type : MCQ Option Shuffling : Yes
Correct Marks : 1 Wrong Marks : 0.25

उपयुक्त शब्द का चयन कीजिए।

महात्मा बुद्ध करुणा के साक्षात् _____ थे।

Options :

1. ✘ अपरिग्रह

2. ✓ अनुग्रह

3. ✘ विग्रह

4. ✘ परिग्रह

Question Number : 170 Question Id : 54592725017 Question Type : MCQ Option Shuffling : Yes
Correct Marks : 1 Wrong Marks : 0.25

उपयुक्त शब्द का चयन कीजिए।

महात्मा बुद्ध करुणा के साक्षात् _____ थे।

Options :

1. ✖ अपरिग्रह

2. ✔ अनुग्रह

3. ✖ विग्रह

4. ✖ परिग्रह

Question Number : 171 Question Id : 54592725018 Question Type : MCQ Option Shuffling : Yes
Correct Marks : 1 Wrong Marks : 0.25

शब्द-युग्म के सही अर्थ-भेद का चयन कीजिए।

द्वार-द्वारा

Options :

1. ✖ प्रवेश-निकाश

2. ✖ घर-गृहस्थ

3. ✖ माध्यम-पत्नी

4. ✔ दरवाजा-माध्यम

Question Number : 171 Question Id : 54592725018 Question Type : MCQ Option Shuffling : Yes
Correct Marks : 1 Wrong Marks : 0.25

शब्द-युग्म के सही अर्थ-भेद का चयन कीजिए।

द्वार-द्वारा

Options :

1. ✖ प्रवेश-निकाश

2. ✖ घर-गृहस्थ

3. ✖ माध्यम-पत्नी

4. ✔ दरवाजा-माध्यम

Question Number : 172 Question Id : 54592725019 Question Type : MCQ Option Shuffling : Yes
Correct Marks : 1 Wrong Marks : 0.25

चाँदनी का पर्यायवाची शब्द है।

Options :

1. * शयन
2. * चटका
3. ✓ ज्योत्स्ना
4. * निरय

Question Number : 172 Question Id : 54592725019 Question Type : MCQ Option Shuffling : Yes
Correct Marks : 1 Wrong Marks : 0.25

चाँदनी का पर्यायवाची शब्द है।

Options :

1. * शयन
2. * चटका
3. ✓ ज्योत्स्ना
4. * निरय

Question Number : 173 Question Id : 54592725020 Question Type : MCQ Option Shuffling : Yes
Correct Marks : 1 Wrong Marks : 0.25

शुद्ध शब्द का चयन कीजिए।

Options :

1. ✓ हस्तक्षेप
2. * हसतक्षेप
3. * हस्तछेप
4. * हस्ताक्षेप

Question Number : 173 Question Id : 54592725020 Question Type : MCQ Option Shuffling : Yes
Correct Marks : 1 Wrong Marks : 0.25

शुद्ध शब्द का चयन कीजिए।

Options :

1. ✓ हस्तक्षेप
2. * हसतक्षेप
3. * हस्तछेप

4. * हस्ताक्षेप

Question Number : 174 Question Id : 54592725021 Question Type : MCQ Option Shuffling : Yes

Correct Marks : 1 Wrong Marks : 0.25

कर्कश का विलोम शब्द क्या है?

Options :

1. ✓ मृदुल
2. * विकीर्ण
3. * मोक्ष
4. * सही

Question Number : 174 Question Id : 54592725021 Question Type : MCQ Option Shuffling : Yes

Correct Marks : 1 Wrong Marks : 0.25

कर्कश का विलोम शब्द क्या है?

Options :

1. ✓ मृदुल
2. * विकीर्ण
3. * मोक्ष
4. * सही

Question Number : 175 Question Id : 54592725022 Question Type : MCQ Option Shuffling : Yes

Correct Marks : 1 Wrong Marks : 0.25

अशुद्ध वर्तनी वाले शब्द का चयन करें।

Options :

1. * सहिष्णुता
2. ✓ परवीण
3. * आच्छादित
4. * उच्छृंखल

Question Number : 175 Question Id : 54592725022 Question Type : MCQ Option Shuffling : Yes

Correct Marks : 1 Wrong Marks : 0.25

अशुद्ध वर्तनी वाले शब्द का चयन करें।

Options :

1. ✖ सहिष्णुता
2. ✔ परवीण
3. ✖ आच्छादित
4. ✖ उच्छृंखल

Question Number : 176 Question Id : 54592725023 Question Type : MCQ Option Shuffling : Yes
Correct Marks : 1 Wrong Marks : 0.25

राजा ने दान दिया। वाक्य का स्त्रीलिंग रूप होगा।

Options :

1. ✖ राजाओं ने दान दिया।
2. ✔ रानी ने दान दिया।
3. ✖ राजा ने प्रजा को दान दिया।
4. ✖ रानियों ने दान दिया।

Question Number : 176 Question Id : 54592725023 Question Type : MCQ Option Shuffling : Yes
Correct Marks : 1 Wrong Marks : 0.25

राजा ने दान दिया। वाक्य का स्त्रीलिंग रूप होगा।

Options :

1. ✖ राजाओं ने दान दिया।
2. ✔ रानी ने दान दिया।
3. ✖ राजा ने प्रजा को दान दिया।
4. ✖ रानियों ने दान दिया।

Question Number : 177 Question Id : 54592725024 Question Type : MCQ Option Shuffling : Yes
Correct Marks : 1 Wrong Marks : 0.25

कौन-सा शब्द हमेशा बहुवचन में प्रयुक्त होता है?

Options :

1. ✖ शिशु
2. ✔ आँसू
3. ✖ भक्ति

4. * ग्रंथ

Question Number : 177 Question Id : 54592725024 Question Type : MCQ Option Shuffling : Yes
Correct Marks : 1 Wrong Marks : 0.25

कौन-सा शब्द हमेशा बहुवचन में प्रयुक्त होता है?

Options :

1. * शिशु
2. ✓ आँसू
3. * भक्ति
4. * ग्रंथ

Question Number : 178 Question Id : 54592725025 Question Type : MCQ Option Shuffling : Yes
Correct Marks : 1 Wrong Marks : 0.25

वाक्य “तुम अपना कार्य नहीं करते हो।” में कौन सा सर्वनाम प्रयोग हुआ है?

Options :

1. * उत्तम पुरुष
2. ✓ मध्यम पुरुष
3. * अन्य पुरुष
4. * सम्बंधवाचक पुरुष

Question Number : 178 Question Id : 54592725025 Question Type : MCQ Option Shuffling : Yes
Correct Marks : 1 Wrong Marks : 0.25

वाक्य “तुम अपना कार्य नहीं करते हो।” में कौन सा सर्वनाम प्रयोग हुआ है?

Options :

1. * उत्तम पुरुष
2. ✓ मध्यम पुरुष
3. * अन्य पुरुष
4. * सम्बंधवाचक पुरुष

Question Number : 179 Question Id : 54592725026 Question Type : MCQ Option Shuffling : Yes
Correct Marks : 1 Wrong Marks : 0.25

वर्तमान काल के कितने भेद हैं?

Options :

1. * दो
2. * चार
3. * छः
4. ✓ तीन

Question Number : 179 Question Id : 54592725026 Question Type : MCQ Option Shuffling : Yes

Correct Marks : 1 Wrong Marks : 0.25

वर्तमान काल के कितने भेद हैं?

Options :

1. * दो
2. * चार
3. * छः
4. ✓ तीन

Question Number : 180 Question Id : 54592725027 Question Type : MCQ Option Shuffling : Yes

Correct Marks : 1 Wrong Marks : 0.25

निम्नलिखित में से कर्तृवाच्य का वाक्य बताइए।

Options :

1. ✓ तुलसीदास ने रामचरितमानस लिखी।
2. * राम द्वारा रावण को मारा गया।
3. * आज टहलने चला जाए।
4. * छात्रों द्वारा फुटबाल खेली जाती है।

Question Number : 180 Question Id : 54592725027 Question Type : MCQ Option Shuffling : Yes

Correct Marks : 1 Wrong Marks : 0.25

निम्नलिखित में से कर्तृवाच्य का वाक्य बताइए।

Options :

1. ✓ तुलसीदास ने रामचरितमानस लिखी।
2. * राम द्वारा रावण को मारा गया।

3. * आज टहलने चला जाए।

4. * छात्रों द्वारा फुटबाल खेली जाती है।

General Hindi2

Group Number :	10
Group Id :	5459271240
Group Maximum Duration :	0
Group Minimum Duration :	120
Show Attended Group? :	No
Edit Attended Group? :	No
Break time:	0
Group Marks:	20
Is this Group for Examiner? :	No
Revisit allowed for group Instructions? :	Yes
Maximum Instruction Time:	0
Minimum Instruction Time:	0

General Hindi2

Section Id :	5459271240
Section Number :	1
Section type :	Online
Mandatory or Optional:	Mandatory
Number of Questions:	16
Number of Questions to be attempted:	16
Section Marks:	20

Sub-Section Number:	1
Sub-Section Id:	5459271487
Question Shuffling Allowed :	Yes

Question Number : 181 Question Id : 54592725028 Question Type : MCQ Option Shuffling : Yes
Correct Marks : 1 Wrong Marks : 0.25

दिए गए वाक्य के लिए वाक्य के प्रकार का चयन कीजिए।

“सूर्योदय हुआ और कुहासा जाता रहा”

Options :

1. * मिश्र वाक्य

2. * सरल वाक्य

3. ✓ संयुक्त वाक्य

4. * निषेधवाचक वाक्य

Question Number : 181 Question Id : 54592725028 Question Type : MCQ Option Shuffling : Yes
Correct Marks : 1 Wrong Marks : 0.25

दिए गए वाक्य के लिए वाक्य के प्रकार का चयन कीजिए।

“सूर्योदय हुआ और कुहासा जाता रहा”

Options :

1. * मिश्र वाक्य

2. * सरल वाक्य

3. ✓ संयुक्त वाक्य

4. * निषेधवाचक वाक्य

Question Number : 182 Question Id : 54592725029 Question Type : MCQ Option Shuffling : Yes
Correct Marks : 1 Wrong Marks : 0.25

दिए गए चार में से तीन विकल्प किसी न किसी प्रकार अशुद्ध हैं, शुद्ध वाक्य का चयन कीजिए।

Options :

1. * यह देखो!ये नदी का कुल है।

2. * वह मेरा मीत न होकर, अमित है।

3. ✓ यह सभी मेरे परिजन हैं।

4. * मैंने भिखारी को अनुदान दिया है।

Question Number : 182 Question Id : 54592725029 Question Type : MCQ Option Shuffling : Yes
Correct Marks : 1 Wrong Marks : 0.25

दिए गए चार में से तीन विकल्प किसी न किसी प्रकार अशुद्ध हैं, शुद्ध वाक्य का चयन कीजिए।

Options :

1. * यह देखो!ये नदी का कुल है।

2. * वह मेरा मीत न होकर, अमित है।

3. ✓ यह सभी मेरे परिजन हैं।

4. ✘ मैंने भिखारी को अनुदान दिया है।

Question Number : 183 Question Id : 54592725030 Question Type : MCQ Option Shuffling : Yes

Correct Marks : 1 Wrong Marks : 0.25

निम्नलिखित वाक्य के जिस भाग में त्रुटि है उसका चयन कीजिए, यदि वाक्य त्रुटिरहित है तो कोई त्रुटि नहीं का चयन करें।

“शीला/अस्वस्थ होने के लिए/आज विद्यालय नहीं गई/कोई त्रुटि नहीं।”

Options :

1. ✘ शीला

2. ✓ अस्वस्थ होने के लिए

3. ✘ आज विद्यालय नहीं गई

4. ✘ कोई त्रुटि नहीं

Question Number : 183 Question Id : 54592725030 Question Type : MCQ Option Shuffling : Yes

Correct Marks : 1 Wrong Marks : 0.25

निम्नलिखित वाक्य के जिस भाग में त्रुटि है उसका चयन कीजिए, यदि वाक्य त्रुटिरहित है तो कोई त्रुटि नहीं का चयन करें।

“शीला/अस्वस्थ होने के लिए/आज विद्यालय नहीं गई/कोई त्रुटि नहीं।”

Options :

1. ✘ शीला

2. ✓ अस्वस्थ होने के लिए

3. ✘ आज विद्यालय नहीं गई

4. ✘ कोई त्रुटि नहीं

Question Number : 184 Question Id : 54592725031 Question Type : MCQ Option Shuffling : Yes

Correct Marks : 1 Wrong Marks : 0.25

हम आज रात को यहीं ठहरेंगे। का भाववाच्य वाक्य होगा।

Options :

1. ✓ हमसे रात को यहीं ठहरा जाएगा।
2. ✘ हमसे रात को यहा ठहरा नहीं जाएगा।
3. ✘ हम आज रात को यहीं पर नहीं ठहर पायेंगे।
4. ✘ हम आज रात को यहीं ठहरेंगे।

Question Number : 184 Question Id : 54592725031 Question Type : MCQ Option Shuffling : Yes
Correct Marks : 1 Wrong Marks : 0.25

हम आज रात को यहीं ठहरेंगे। का भाववाच्य वाक्य होगा।

Options :

1. ✓ हमसे रात को यहीं ठहरा जाएगा।
2. ✘ हमसे रात को यहा ठहरा नहीं जाएगा।
3. ✘ हम आज रात को यहीं पर नहीं ठहर पायेंगे।
4. ✘ हम आज रात को यहीं ठहरेंगे।

Question Number : 185 Question Id : 54592725032 Question Type : MCQ Option Shuffling : Yes
Correct Marks : 1 Wrong Marks : 0.25

वाक्य का कर्ता प्रायः क्या होता है?

Options :

1. ✓ उद्देश्य
2. ✘ विधेय
3. ✘ पदबंध
4. ✘ उपवाक्य

Question Number : 185 Question Id : 54592725032 Question Type : MCQ Option Shuffling : Yes
Correct Marks : 1 Wrong Marks : 0.25

वाक्य का कर्ता प्रायः क्या होता है?

Options :

1. ✓ उद्देश्य
2. ✘ विधेय
3. ✘ पदबंध

4. * उपवाक्य

Question Number : 186 Question Id : 54592725033 Question Type : MCQ Option Shuffling : Yes

Correct Marks : 1 Wrong Marks : 0.25

नीचे दिये गये प्रश्न को चार भागो मे बाँटा गया है (A), (B), (C) और (D) क्रमांक दिए गए है। आपको यह देखना है कि वाक्य के किस भाग में व्याकरण, भाषा, वर्तनी, शब्दों के गलत प्रयोग या इसी तरह की कोई त्रुटि तो नहीं है। यदि त्रुटि होगी तो वाक्य के किसी एक भाग में ही होगी। उस भाग का क्रमांक ही आपका उत्तर है। यदि वाक्य त्रुटिरहित है तो कोई त्रुटि नहीं का चयन करें-

धर्म नहीं अपितु (A)/स्वार्थ ही सम्प्रदायिकता (B)/का कारण होते हैं।(C)/ कोई त्रुटि नहीं(D)

Options :

1. * A

2. * B

3. ✓ C

4. * D

Question Number : 186 Question Id : 54592725033 Question Type : MCQ Option Shuffling : Yes

Correct Marks : 1 Wrong Marks : 0.25

नीचे दिये गये प्रश्न को चार भागो मे बाँटा गया है (A), (B), (C) और (D) क्रमांक दिए गए है। आपको यह देखना है कि वाक्य के किस भाग में व्याकरण, भाषा, वर्तनी, शब्दों के गलत प्रयोग या इसी तरह की कोई त्रुटि तो नहीं है। यदि त्रुटि होगी तो वाक्य के किसी एक भाग में ही होगी। उस भाग का क्रमांक ही आपका उत्तर है। यदि वाक्य त्रुटिरहित है तो कोई त्रुटि नहीं का चयन करें-

धर्म नहीं अपितु (A)/स्वार्थ ही सम्प्रदायिकता (B)/का कारण होते हैं।(C) / कोई त्रुटि नहीं(D)

Options :

1. ✖ A

2. ✖ B

3. ✔ C

4. ✖ D

Question Number : 187 Question Id : 54592725034 Question Type : MCQ Option Shuffling : Yes

Correct Marks : 1 Wrong Marks : 0.25

इस कार्यक्रम की समाप्ति पर हम आपके घर आएँगे। रेखांकित पद-समूह क्या है?

Options :

1. ✖ सामासिक पद

2. ✖ उपवाक्य

3. ✔ पदबंध

4. ✖ मुहावरा

Question Number : 187 Question Id : 54592725034 Question Type : MCQ Option Shuffling : Yes

Correct Marks : 1 Wrong Marks : 0.25

इस कार्यक्रम की समाप्ति पर हम आपके घर आएँगे। रेखांकित पद-समूह क्या है?

Options :

1. ✖ सामासिक पद

2. ✖ उपवाक्य

3. ✔ पदबंध

4. ✖ मुहावरा

Question Number : 188 Question Id : 54592725035 Question Type : MCQ Option Shuffling : Yes

Correct Marks : 1 Wrong Marks : 0.25

_____ चिन्ह का प्रयोग हर्ष, घृणा, आश्चर्य आदि भावों को व्यक्त करने वाले शब्दों के साथ होता है।

Options :

1. ✖ अल्पविराम चिन्ह

2. * अर्द्धविराम चिन्ह
3. * प्रश्नवाचक चिन्ह
4. ✓ विस्मयादिबोधक चिन्ह

Question Number : 188 Question Id : 54592725035 Question Type : MCQ Option Shuffling : Yes
Correct Marks : 1 Wrong Marks : 0.25

_____ चिन्ह का प्रयोग हर्ष, घृणा, आश्चर्य आदि भावों को व्यक्त करने वाले शब्दों के साथ होता है।

Options :

1. * अल्पविराम चिन्ह
2. * अर्द्धविराम चिन्ह
3. * प्रश्नवाचक चिन्ह
4. ✓ विस्मयादिबोधक चिन्ह

Question Number : 189 Question Id : 54592725036 Question Type : MCQ Option Shuffling : Yes
Correct Marks : 1 Wrong Marks : 0.25

लोकोक्ति “आग खाना अंगार निकालना” का अर्थ है।

Options :

1. * स्वयं दोषी होकर निर्दोष को दोषी ठहराना
2. * अपनी गरज पर दबना पड़ता है
3. ✓ बुरी संगत बुरा कर्म
4. * अच्छे स्थान पर बुरे लोग भी होते हैं

Question Number : 189 Question Id : 54592725036 Question Type : MCQ Option Shuffling : Yes
Correct Marks : 1 Wrong Marks : 0.25

लोकोक्ति “आग खाना अंगार निकालना” का अर्थ है।

Options :

1. * स्वयं दोषी होकर निर्दोष को दोषी ठहराना
2. * अपनी गरज पर दबना पड़ता है
3. ✓ बुरी संगत बुरा कर्म

4. * अच्छे स्थान पर बुरे लोग भी होते हैं

Question Number : 190 Question Id : 54592725037 Question Type : MCQ Option Shuffling : Yes

Correct Marks : 1 Wrong Marks : 0.25

किस वाक्य में विरामादि चिन्हों का सही प्रयोग हुआ है?

Options :

1. * मैं मनुष्य में, मानवता देखना चाहता हूँ" उसे देवता बनाने की मेरी इच्छा नहीं है।
2. ✓ मैं मनुष्य में मानवता देखना चाहता हूँ। उसे देवता बनाने की, मेरी इच्छा नहीं है।
3. * मैं मनुष्य में, मानवता, देखना चाहता हूँ। उसे देवता बनाने की मेरी इच्छा, नहीं है।
4. * मैं, मनुष्य में मानवता, देखना चाहता हूँ। उसे देवता बनाने की मेरी इच्छा नहीं है।

Question Number : 190 Question Id : 54592725037 Question Type : MCQ Option Shuffling : Yes

Correct Marks : 1 Wrong Marks : 0.25

किस वाक्य में विरामादि चिन्हों का सही प्रयोग हुआ है?

Options :

1. * मैं मनुष्य में, मानवता देखना चाहता हूँ" उसे देवता बनाने की मेरी इच्छा नहीं है।
2. ✓ मैं मनुष्य में मानवता देखना चाहता हूँ। उसे देवता बनाने की, मेरी इच्छा नहीं है।
3. * मैं मनुष्य में, मानवता, देखना चाहता हूँ। उसे देवता बनाने की मेरी इच्छा, नहीं है।
4. * मैं, मनुष्य में मानवता, देखना चाहता हूँ। उसे देवता बनाने की मेरी इच्छा नहीं है।

Question Number : 191 Question Id : 54592725038 Question Type : MCQ Option Shuffling : Yes

Correct Marks : 1 Wrong Marks : 0.25

मुहावरे का अक्षय कोष है:

Options :

1. ✓ हिन्दी और उर्दू भाषा के पास
2. * हिन्दी और फारसी भाषा के पास
3. * हिन्दी और अरबी भाषा के पास

4. * हिन्दी भाषा के पास

Question Number : 191 Question Id : 54592725038 Question Type : MCQ Option Shuffling : Yes
Correct Marks : 1 Wrong Marks : 0.25

मुहावरे का अक्षय कोष है:

Options :

1. ✓ हिन्दी और उर्दू भाषा के पास
2. * हिन्दी और फारसी भाषा के पास
3. * हिन्दी और अरबी भाषा के पास
4. * हिन्दी भाषा के पास

Question Number : 192 Question Id : 54592725039 Question Type : MCQ Option Shuffling : Yes
Correct Marks : 1 Wrong Marks : 0.25

प्रश्नवाचक तथा विस्मयादिबोधक को छोड़कर सभी वाक्यों के अन्त में प्रयुक्त होता है।

Options :

1. ✓ पूर्ण विराम
2. * अर्द्ध विराम
3. * उद्धरण चिन्ह
4. * विवरण चिन्ह

Question Number : 192 Question Id : 54592725039 Question Type : MCQ Option Shuffling : Yes
Correct Marks : 1 Wrong Marks : 0.25

प्रश्नवाचक तथा विस्मयादिबोधक को छोड़कर सभी वाक्यों के अन्त में प्रयुक्त होता है।

Options :

1. ✓ पूर्ण विराम
2. * अर्द्ध विराम
3. * उद्धरण चिन्ह
4. * विवरण चिन्ह

Question Number : 193 Question Id : 54592725040 Question Type : MCQ Option Shuffling : Yes
Correct Marks : 1 Wrong Marks : 0.25

मुहावरा “हाथ को हाथ न सूझना” का अर्थ है।

Options :

1. ✖ कोशिश न करना
2. ✔ घना अँधेरा होना
3. ✖ एक हाथ काम न करना
4. ✖ असम्भव कार्य करना

Question Number : 193 Question Id : 54592725040 Question Type : MCQ Option Shuffling : Yes
Correct Marks : 1 Wrong Marks : 0.25

मुहावरा “हाथ को हाथ न सूझना” का अर्थ है।

Options :

1. ✖ कोशिश न करना
2. ✔ घना अँधेरा होना
3. ✖ एक हाथ काम न करना
4. ✖ असम्भव कार्य करना

Question Number : 194 Question Id : 54592725041 Question Type : MCQ Option Shuffling : Yes
Correct Marks : 1 Wrong Marks : 0.25

लोकोक्ति “शक्करखोरे को शक्कर मूँजी को टक्कर” का अर्थ है।

Options :

1. ✖ गुणवान ही गुणों की परख पहचान करता है
2. ✖ स्थिति में कोई परिवर्तन नहीं
3. ✖ सदा एक समान होना
4. ✔ योग्यता के अनुसार वस्तु प्राप्त होना

Question Number : 194 Question Id : 54592725041 Question Type : MCQ Option Shuffling : Yes
Correct Marks : 1 Wrong Marks : 0.25

लोकोक्ति “शक्करखोरे को शक्कर मूँजी को टक्कर” का अर्थ है।

Options :

1. ✖ गुणवान ही गुणों की परख पहचान करता है

2. * स्थिति में कोई परिवर्तन नहीं
3. * सदा एक समान होना
4. ✓ योग्यता के अनुसार वस्तु प्राप्त होना

Question Number : 195 Question Id : 54592725042 Question Type : MCQ Option Shuffling : Yes
Correct Marks : 1 Wrong Marks : 0.25

दो विपरीतार्थक शब्दों के बीच किस चिन्ह का प्रयोग होता है?

Options :

1. * विस्मयादि
2. * अल्प विराम
3. ✓ योजक
4. * पूर्ण विराम

Question Number : 195 Question Id : 54592725042 Question Type : MCQ Option Shuffling : Yes
Correct Marks : 1 Wrong Marks : 0.25

दो विपरीतार्थक शब्दों के बीच किस चिन्ह का प्रयोग होता है?

Options :

1. * विस्मयादि
2. * अल्प विराम
3. ✓ योजक
4. * पूर्ण विराम

Sub-Section Number:	2
Sub-Section Id:	5459271488
Question Shuffling Allowed :	Yes

Question Id : 54592725043 Question Type : COMPREHENSION Sub Question Shuffling Allowed : Yes Group Comprehension Questions : No

Question Numbers : (196 to 200)

Question Label : Comprehension

नीचे दिये गये अपठित गद्यांश को पढ़िए और प्रश्न के उत्तर दीजिए।

रवीन्द्रनाथ सांस्कृतिक स्वर के रूप में पूर्व और पश्चिम के समन्वय पर बल देते हैं, परन्तु पश्चिम विज्ञान को स्वीकार करते हुए भी उन्होंने उसके भौतिक प्रगतिशीलता के आदर्श को नहीं अपनाया है। वे समन्वय साधना का उत्कृष्टतम रूप भारतवर्ष की राष्ट्रियता में देखते हैं। यह राष्ट्रियता काल-प्रवाह में बहकर आई असंख्य जातियों-प्रजातियों के हार्दिक आदान-प्रदान, सहयोग और समन्वय के रूप में प्रतिफलित है। उनकी राष्ट्रियता की कल्पना पश्चिम की शोषणशील एकांगी राष्ट्रचेतना से भिन्न है, जो उपनिवेशों का निर्माण कर राष्ट्रिय जीवनमान की अभिवृद्धि को ही एकमात्र सत्य जानती है। वस्तुतः भारतवर्ष की राष्ट्रियता मानवीयता ही है और इसलिए अन्तर्राष्ट्रिय चेतना से उसका किंचित् मात्र भी विरोध नहीं है। भारत का राष्ट्रधर्म मानवता की पुकार बनकर ही अपने आत्मधर्म को चरितार्थ कर सकता है।

Sub questions

Question Number : 196 Question Id : 54592725044 Question Type : MCQ Option Shuffling : Yes

Correct Marks : 1 Wrong Marks : 0.25

उपर्युक्त गद्यांश का सर्वाधिक उपयुक्त शीर्षक हो सकता है।

Options :

1. ✓ रवीन्द्र और भारतीय राष्ट्रियता
2. * राष्ट्रियता का सच्चा स्वरूप
3. * राष्ट्र धर्म और आत्म धर्म
4. * पूर्व और पश्चिम का समन्वय

Question Number : 197 Question Id : 54592725045 Question Type : MCQ Option Shuffling : Yes

Correct Marks : 1 Wrong Marks : 0.25

रवीन्द्रनाथ के सांस्कृतिक स्वर की सर्वाधिक उल्लेखनीय विशेषता है।

Options :

1. * प्रगतिशीलता
2. * भारतीय अध्यात्मवाद
3. * वैज्ञानिकता की प्रमुखता
4. ✓ अध्यात्म एवं विज्ञान का समन्वय

Question Number : 198 Question Id : 54592725046 Question Type : MCQ Option Shuffling : Yes

Correct Marks : 1 Wrong Marks : 0.25

“भारतीय राष्ट्रियता” को पर्याय कहा जा सकता है।

Options :

1. * भौतिकवाद का
2. ✓ मानवीयता का
3. * अध्यात्मवाद का
4. * प्रगतिशीलता का

Question Number : 199 Question Id : 54592725047 Question Type : MCQ Option Shuffling : Yes

Correct Marks : 1 Wrong Marks : 0.25

पश्चिमी राष्ट्रचेतना को इसलिए एकांगी कहा गया है क्योंकि वह:

Options :

1. * पारस्परिक आदान-प्रदान को महत्व देती है
2. * शोषण में विश्वास रखती है
3. * उपनिवेशवाद को बढ़ावा देती है
4. ✓ राष्ट्रिय जीवन-मान की वृद्धि पर बल देती है

Question Number : 200 Question Id : 54592725048 Question Type : MCQ Option Shuffling : Yes

Correct Marks : 1 Wrong Marks : 0.25

भारतीय राष्ट्रियता अन्तर्राष्ट्रिय चेतना की अविरोधी है क्योंकि वह:

Options :

1. ✓ मानवीयता की समानार्थी है
2. * सहयोग पर आधारित है
3. * विज्ञान को स्वीकृति देती है
4. * सांस्कृतिक तत्वों पर बल नहीं देती है

Question Id : 54592725043 Question Type : COMPREHENSION Sub Question Shuffling Allowed : Yes Group Comprehension

Questions : No

Question Numbers : (196 to 200)

Question Label : Comprehension

नीचे दिये गये अपठित गद्यांश को पढ़िए और प्रश्न के उत्तर दीजिए।

रवीन्द्रनाथ सांस्कृतिक स्वर के रूप में पूर्व और पश्चिम के समन्वय पर बल देते हैं, परन्तु पश्चिम विज्ञान को स्वीकार करते हुए भी उन्होंने उसके भौतिक प्रगतिशीलता के आदर्श को नहीं अपनाया है। वे समन्वय साधना का उत्कृष्टतम रूप भारतवर्ष की राष्ट्रियता में देखते हैं। यह राष्ट्रियता काल-प्रवाह में बहकर आई असंख्य जातियों-प्रजातियों के हार्दिक आदान-प्रदान, सहयोग और समन्वय के रूप में प्रतिफलित है। उनकी राष्ट्रियता की कल्पना पश्चिम की शोषणशील एकांगी राष्ट्रचेतना से भिन्न है, जो उपनिवेशों का निर्माण कर राष्ट्रिय जीवनमान की अभिवृद्धि को ही एकमात्र सत्य जानती है। वस्तुतः भारतवर्ष की राष्ट्रियता मानवीयता ही है और इसलिए अन्तर्राष्ट्रीय चेतना से उसका किंचित् मात्र भी विरोध नहीं है। भारत का राष्ट्रधर्म मानवता की पुकार बनकर ही अपने आत्मधर्म को चरितार्थ कर सकता है।

Sub questions

Question Number : 196 Question Id : 54592725044 Question Type : MCQ Option Shuffling : Yes
Correct Marks : 1 Wrong Marks : 0.25

उपर्युक्त गद्यांश का सर्वाधिक उपयुक्त शीर्षक हो सकता है।

Options :

1. ✓ रवीन्द्र और भारतीय राष्ट्रियता
2. * राष्ट्रियता का सच्चा स्वरूप
3. * राष्ट्र धर्म और आत्म धर्म
4. * पूर्व और पश्चिम का समन्वय

Question Number : 197 Question Id : 54592725045 Question Type : MCQ Option Shuffling : Yes
Correct Marks : 1 Wrong Marks : 0.25

रवीन्द्रनाथ के सांस्कृतिक स्वर की सर्वाधिक उल्लेखनीय विशेषता है।

Options :

1. ✖ प्रगतिशीलता
2. ✖ भारतीय अध्यात्मवाद
3. ✖ वैज्ञानिकता की प्रमुखता
4. ✔ अध्यात्म एवं विज्ञान का समन्वय

Question Number : 198 Question Id : 54592725046 Question Type : MCQ Option Shuffling : Yes
Correct Marks : 1 Wrong Marks : 0.25

“भारतीय राष्ट्रीयता” को पर्याय कहा जा सकता है।

Options :

1. ✖ भौतिकवाद का
2. ✔ मानवीयता का
3. ✖ अध्यात्मवाद का
4. ✖ प्रगतिशीलता का

Question Number : 199 Question Id : 54592725047 Question Type : MCQ Option Shuffling : Yes
Correct Marks : 1 Wrong Marks : 0.25

पश्चिमी राष्ट्रचेतना को इसलिए एकांगी कहा गया है क्योंकि वह:

Options :

1. ✖ पारस्परिक आदान-प्रदान को महत्व देती है
2. ✖ शोषण में विश्वास रखती है
3. ✖ उपनिवेशवाद को बढ़ावा देती है
4. ✔ राष्ट्रीय जीवन-मान की वृद्धि पर बल देती है

Question Number : 200 Question Id : 54592725048 Question Type : MCQ Option Shuffling : Yes
Correct Marks : 1 Wrong Marks : 0.25

भारतीय राष्ट्रीयता अन्तर्राष्ट्रीय चेतना की अविरोधी है क्योंकि वह:

Options :

1. ✔ मानवीयता की समानार्थी है
2. ✖ सहयोग पर आधारित है

3. * विज्ञान को स्वीकृति देती है

4. * सांस्कृतिक तत्वों पर बल नहीं देती है