

## Education Consultant India Ltd.

### Notations :

- 1.Options shown in green color and with ✓ icon are correct.
- 2.Options shown in red color and with ✘ icon are incorrect.

<b>Question Paper Name:</b>	Lower Division Clerk 26th August 2019 S1
<b>Subject Name:</b>	LOWER DIVISION CLERK
<b>Creation Date:</b>	2019-08-26 12:14:24
<b>Duration:</b>	120
<b>Total Marks:</b>	200
<b>Display Marks:</b>	Yes
<b>Share Answer Key With Delivery Engine:</b>	No
<b>Actual Answer Key:</b>	Yes
<b>Calculator:</b>	None
<b>Magnifying Glass Required?:</b>	No
<b>Ruler Required?:</b>	No
<b>Eraser Required?:</b>	No
<b>Scratch Pad Required?:</b>	No
<b>Rough Sketch/Notepad Required?:</b>	No
<b>Protractor Required?:</b>	No
<b>Show Watermark on Console?:</b>	Yes
<b>Highlighter:</b>	No
<b>Auto Save on Console?:</b>	No

### Mental Ability 1

<b>Group Number :</b>	1
<b>Group Id :</b>	998367630
<b>Group Maximum Duration :</b>	0
<b>Group Minimum Duration :</b>	0
<b>Revisit allowed for view? :</b>	No
<b>Revisit allowed for edit? :</b>	No
<b>Break time:</b>	0
<b>Group Marks:</b>	20
<b>Revisit allowed for group Instructions? :</b>	Yes
<b>Maximum Instruction Time:</b>	0
<b>Minimum Instruction Time:</b>	0

### Mental Ability 1

<b>Section Id :</b>	998367751
<b>Section Number :</b>	1
<b>Section type :</b>	Online
<b>Mandatory or Optional:</b>	Mandatory
<b>Number of Questions:</b>	20
<b>Number of Questions to be attempted:</b>	20
<b>Section Marks:</b>	20

Display Number Panel: Yes  
Group All Questions: No

Sub-Section Number: 1  
Sub-Section Id: 998367959  
Question Shuffling Allowed : Yes

Question Number : 1 Question Id : 99836717901 Question Type : MCQ Option Shuffling : Yes Display Question Number : Yes  
Single Line Question Option : No Option Orientation : Vertical

Correct Marks : 1 Wrong Marks : 0.25

Which of the following words cannot be made by using the letters from the given word?

ABORIGINAL

Options :

1. ✘ ORGAN
2. ✔ ANGLE
3. ✘ ALIGN
4. ✘ GRAIN

Question Number : 1 Question Id : 99836717901 Question Type : MCQ Option Shuffling : Yes Display Question Number : Yes  
Single Line Question Option : No Option Orientation : Vertical

Correct Marks : 1 Wrong Marks : 0.25

निम्नलिखित में के कौन सा-शब्द दिए गए शब्द के अक्षरों का उपयोग करके नहीं बनाया जा सकता है?

ABORIGINAL

Options :

1. ✘ ORGAN
2. ✔ ANGLE
3. ✘ ALIGN
4. ✘ GRAIN

Question Number : 2 Question Id : 99836717902 Question Type : MCQ Option Shuffling : Yes Display Question Number : Yes  
Single Line Question Option : No Option Orientation : Vertical

Correct Marks : 1 Wrong Marks : 0.25

Select the term that will come next in the following series.

4E2H, 6G3K, 8I4N, -----

Options :

1. ✘ 10J5P
2. ✘ 10K5P
3. ✔ 10K5Q
4. ✘ 10J5Q

Question Number : 2 Question Id : 99836717902 Question Type : MCQ Option Shuffling : Yes Display Question Number : Yes  
Single Line Question Option : No Option Orientation : Vertical

Correct Marks : 1 Wrong Marks : 0.25

अगली श्रृंखला में आने वाले पद का चयन करें

4E2H, 6G3K, 8I4N, -----

Options :

- ✘ 10J5P
- ✘ 10K5P
- ✔ 10K5Q
- ✘ 10J5Q

Question Number : 3 Question Id : 99836717903 Question Type : MCQ Option Shuffling : Yes Display Question Number : Yes  
Single Line Question Option : No Option Orientation : Vertical

Correct Marks : 1 Wrong Marks : 0.25

Find the missing term in the following letter series.

OXXXOXX, OXXXXOX, OXXXXXO, OXXXXXX, OXXXXXX, ?

Note: For this question, discrepancy is found in question/answer. So, this question is ignored for all candidates.

Options :

- OXOXXXX
- XOOXXXX
- OXXOXXXX
- OXXOXXX

Question Number : 3 Question Id : 99836717903 Question Type : MCQ Option Shuffling : Yes Display Question Number : Yes  
Single Line Question Option : No Option Orientation : Vertical

Correct Marks : 1 Wrong Marks : 0.25

निम्नलिखित अक्षर श्रृंखला में लुप्त पद को ज्ञात करो।

OXXXOXX, OXXXXOX, OXXXXXO, OXXXXXX, OXXXXXX, ?

Note: For this question, discrepancy is found in question/answer. So, this question is ignored for all candidates.

Options :

- OXOXXXX
- XOOXXXX
- OXXOXXXX
- OXXOXXX

Question Number : 4 Question Id : 99836717904 Question Type : MCQ Option Shuffling : Yes Display Question Number : Yes  
Single Line Question Option : No Option Orientation : Vertical

Correct Marks : 1 Wrong Marks : 0.25

Out of the given options, three are similar in a certain manner. However, one option is NOT like the other three. Select the option which is different from the rest.

Options :

- ✔ TW
- ✘ DF
- ✘ HJ
- ✘ PR

Question Number : 4 Question Id : 99836717904 Question Type : MCQ Option Shuffling : Yes Display Question Number : Yes  
Single Line Question Option : No Option Orientation : Vertical

Correct Marks : 1 Wrong Marks : 0.25

दिए गए विकल्पों में से, तीन एक निश्चित तरीके से समान हैं। हालाँकि, एक विकल्प अन्य तीन की तरह नहीं है। उस विकल्प का चयन करें जो बाकी से अलग है।

Options :

- ✔ TW

2. ✘ DF
3. ✘ HJ
4. ✘ PR

Question Number : 5 Question Id : 99836717905 Question Type : MCQ Option Shuffling : Yes Display Question Number : Yes  
Single Line Question Option : No Option Orientation : Vertical

Correct Marks : 1 Wrong Marks : 0.25

Out of the given options, three are similar in a certain manner. However, one option is NOT like the other three. Select the option which is different from the rest.

Options :

1. ✘ Solder
2. ✘ Brass
3. ✘ Steel
4. ✔ Silver

Question Number : 5 Question Id : 99836717905 Question Type : MCQ Option Shuffling : Yes Display Question Number : Yes  
Single Line Question Option : No Option Orientation : Vertical

Correct Marks : 1 Wrong Marks : 0.25

दिए गए विकल्पों में से, तीन एक निश्चित तरीके से समान हैं। हालाँकि, एक विकल्प अन्य तीन की तरह नहीं है। उस विकल्प का चयन करें जो बाकी से अलग है।

Options :

1. ✘ सोल्डर
2. ✘ पीतल
3. ✘ इस्पात
4. ✔ चांदी

Question Number : 6 Question Id : 99836717906 Question Type : MCQ Option Shuffling : Yes Display Question Number : Yes  
Single Line Question Option : No Option Orientation : Vertical

Correct Marks : 1 Wrong Marks : 0.25

In the given options 3 pair of words are similarly related and one pair is differently related. Find the pair which is differently related.

Options :

1. ✘ Hen : Chick
2. ✘ Cat : Kitten
3. ✔ Cow : Bull
4. ✘ Frog : Tadpole

Question Number : 6 Question Id : 99836717906 Question Type : MCQ Option Shuffling : Yes Display Question Number : Yes  
Single Line Question Option : No Option Orientation : Vertical

Correct Marks : 1 Wrong Marks : 0.25

दिए गए विकल्पों में शब्दों की 3 जोड़ी समान रूप से सम्बंधित हैं, और एक जोड़ी अलग तरह से संबंधित है। उस जोड़ी को ज्ञात करें जो अलग तरह से संबंधित है।

Options :

1. ✘ मुर्गी और चूजा
2. ✘ बिल्ली: बिलौरा
3. ✔ गाय : बैल
4. ✘ मेढक का टिंभकीट

Question Number : 7 Question Id : 99836717907 Question Type : MCQ Option Shuffling : Yes Display Question Number : Yes  
Single Line Question Option : No Option Orientation : Vertical

Correct Marks : 1 Wrong Marks : 0.25

Select the option that is related to the third term on the same basis as the second term is related to the first term.

KEV : ICT :: VHU : ?

Options :

1. ✘ SER
2. ✘ WIV
3. ✘ XJW
4. ✔ TFS

Question Number : 7 Question Id : 99836717907 Question Type : MCQ Option Shuffling : Yes Display Question Number : Yes Single Line Question Option : No Option Orientation : Vertical

Correct Marks : 1 Wrong Marks : 0.25

उस विकल्प का चयन करें जो तीसरे पद से उसी प्रकार से संबंधित है जिस प्रकार से पहला पद दुसरे पद से संबंधित है

KEV : ICT :: VHU : ?

Options :

1. ✘ SER
2. ✘ WIV
3. ✘ XJW
4. ✔ TFS

Question Number : 8 Question Id : 99836717908 Question Type : MCQ Option Shuffling : Yes Display Question Number : Yes Single Line Question Option : No Option Orientation : Vertical

Correct Marks : 1 Wrong Marks : 0.25

Select the option that is related to the third term on the same basis as the second term is related to the first term.

Home : Family :: Office : ?

Options :

1. ✔ Office colleagues
2. ✘ Friends
3. ✘ Boss
4. ✘ Work

Question Number : 8 Question Id : 99836717908 Question Type : MCQ Option Shuffling : Yes Display Question Number : Yes Single Line Question Option : No Option Orientation : Vertical

Correct Marks : 1 Wrong Marks : 0.25

उस विकल्प का चयन करें जो तीसरे पद से उसी प्रकार से संबंधित है जिस प्रकार से पहला पद दुसरे पद से संबंधित है

घर : परिवार :: दफ्तर : ?

Options :

1. ✔ कार्यालय के सहयोगी
2. ✘ मित्र
3. ✘ मालिक
4. ✘ काम

Question Number : 9 Question Id : 99836717909 Question Type : MCQ Option Shuffling : Yes Display Question Number : Yes Single Line Question Option : No Option Orientation : Vertical

Correct Marks : 1 Wrong Marks : 0.25

From the given options find a pair of letters which is analogous to the given pair.

ZYF : YXE

Options :

1. ✘ AWZ : BWY
2. ✘ ZVY : BDC
3. ✘ DZC : AXB
4. ✔ CYB : BXA

Question Number : 9 Question Id : 99836717909 Question Type : MCQ Option Shuffling : Yes Display Question Number : Yes  
Single Line Question Option : No Option Orientation : Vertical

Correct Marks : 1 Wrong Marks : 0.25

दिए गए विकल्पों में से अक्षरों की एक जोड़ी को ज्ञात करें, जो दिए गए जोड़े के अनुरूप है।

ZYF : YXE

Options :

1. ✘ AWZ : BWY
2. ✘ ZVY : BDC
3. ✘ DZC : AXB
4. ✔ CYB : BXA

Question Number : 10 Question Id : 99836717910 Question Type : MCQ Option Shuffling : Yes Display Question Number : Yes  
Single Line Question Option : No Option Orientation : Vertical

Correct Marks : 1 Wrong Marks : 0.25

If FORMULAE is coded as DMPKWNCG, then GUIDANCE will be coded as \_\_\_\_\_.

Options :

1. ✘ ESGBYLAC
2. ✔ ESGBCPEG
3. ✘ IWKFCPEG
4. ✘ ESGBDQFH

Question Number : 10 Question Id : 99836717910 Question Type : MCQ Option Shuffling : Yes Display Question Number : Yes  
Single Line Question Option : No Option Orientation : Vertical

Correct Marks : 1 Wrong Marks : 0.25

यदि FORMULAE को DMPKWNCG के रूप में सांकेतिक किया जाता है, तो GUIDANCE को \_\_\_\_\_ के रूप में सांकेतिक किया जाएगा।

Options :

1. ✘ ESGBYLAC
2. ✔ ESGBCPEG
3. ✘ IWKFCPEG
4. ✘ ESGBDQFH

Question Number : 11 Question Id : 99836717911 Question Type : MCQ Option Shuffling : Yes Display Question Number : Yes  
Single Line Question Option : No Option Orientation : Vertical

Correct Marks : 1 Wrong Marks : 0.25

In a certain code language, 695 means 'lemon is sour', 613 means 'sugar is sweet' and 937 means 'sour and sweet'. Find the code for 'and'.

Options :

1. ✘ 9
2. ✔ 7

3. ✖ 3

4. ✖ 6

Question Number : 11 Question Id : 99836717911 Question Type : MCQ Option Shuffling : Yes Display Question Number : Yes Single Line Question Option : No Option Orientation : Vertical

Correct Marks : 1 Wrong Marks : 0.25

एक निश्चित कोड भाषा में, 695 का अर्थ है 'lemon is sour', 613 का अर्थ है 'sugar is sweet' और 937 का अर्थ है 'sour and sweet'. तो 'and' के लिए कोड ज्ञात करें

Options :

1. ✖ 9

2. ✔ 7

3. ✖ 3

4. ✖ 6

Question Number : 12 Question Id : 99836717912 Question Type : MCQ Option Shuffling : Yes Display Question Number : Yes Single Line Question Option : No Option Orientation : Vertical

Correct Marks : 1 Wrong Marks : 0.25

Here are some words from an artificial language.

'sipvot' means 'softball',  
'marvot' means 'ballroom' and  
'marjeb' means 'roommate'

Which word would mean 'material'?

Options :

1. ✖ votsud

2. ✖ gismar

3. ✖ sipdup

4. ✔ nopjeb

Question Number : 12 Question Id : 99836717912 Question Type : MCQ Option Shuffling : Yes Display Question Number : Yes Single Line Question Option : No Option Orientation : Vertical

Correct Marks : 1 Wrong Marks : 0.25

यहाँ एक कृत्रिम भाषा के कुछ शब्द दिए गए हैं।

'sipvot' का अर्थ है 'softball',  
'marvot' का अर्थ है 'ballroom' और  
'marjeb' का अर्थ है 'roommate'

किस शब्द का अर्थ 'material' है?

Options :

1. ✖ votsud

2. ✖ gismar

3. ✖ sipdup

4. ✔ nopjeb

Question Number : 13 Question Id : 99836717913 Question Type : MCQ Option Shuffling : Yes Display Question Number : Yes Single Line Question Option : No Option Orientation : Vertical

Correct Marks : 1 Wrong Marks : 0.25

Arrange the following words as per order in the English dictionary and choose the second last word.

1. EMISSION
2. EMIGRATE
3. EMIRATES
4. EMISSARY
5. EMINENCE

Options :

1. ✘ EMISSION
2. ✔ EMISSARY
3. ✘ EMINENCE
4. ✘ EMIGRATE

Question Number : 13 Question Id : 99836717913 Question Type : MCQ Option Shuffling : Yes Display Question Number : Yes  
Single Line Question Option : No Option Orientation : Vertical

Correct Marks : 1 Wrong Marks : 0.25

निम्नलिखित शब्दों को अंग्रेजी शब्दकोश के क्रम के अनुसार व्यवस्थित करें और आखिर से दूसरा शब्द को चुनें

1. EMISSION
2. EMIGRATE
3. EMIRATES
4. EMISSARY
5. EMINENCE

Options :

1. ✘ EMISSION
2. ✔ EMISSARY
3. ✘ EMINENCE
4. ✘ EMIGRATE

Question Number : 14 Question Id : 99836717914 Question Type : MCQ Option Shuffling : Yes Display Question Number : Yes  
Single Line Question Option : No Option Orientation : Vertical

Correct Marks : 1 Wrong Marks : 0.25

If the 17th of a month falls on a Sunday, 28th of that month will fall on which day of the week?

Options :

1. ✔ Thursday
2. ✘ Monday
3. ✘ Wednesday
4. ✘ Tuesday

Question Number : 14 Question Id : 99836717914 Question Type : MCQ Option Shuffling : Yes Display Question Number : Yes  
Single Line Question Option : No Option Orientation : Vertical

Correct Marks : 1 Wrong Marks : 0.25

यदि महीने का 17 वां दिन रविवार है, तो उस महीने का 28 वां दिन सप्ताह के किस दिन होगा?

Options :

1. ✔ गुरुवार
2. ✘ सोमवार
3. ✘ बुधवार
4. ✘ मंगलवार

Question Number : 15 Question Id : 99836717915 Question Type : MCQ Option Shuffling : Yes Display Question Number : Yes  
Single Line Question Option : No Option Orientation : Vertical



Correct Marks : 1 Wrong Marks : 0.25

Showing a photograph to P, Mr D said that the gentleman in the photograph was his spouse's father. P said that, that gentleman was his wife's mother's father. If the gentleman in the photograph has only one daughter, then how is P related to D?

Options :

1. ✘ Son
2. ✘ Grandson
3. ✘ Brother-in-law
4. ✔ Son-in-law

Question Number : 15 Question Id : 99836717915 Question Type : MCQ Option Shuffling : Yes Display Question Number : Yes Single Line Question Option : No Option Orientation : Vertical

Correct Marks : 1 Wrong Marks : 0.25

P को एक तस्वीर दिखाते हुए, श्री D ने कहा की, तस्वीर में दिख रहे सज्जन उसकी पत्नी के पिता थे P ने कहा की, वह सज्जन उसकी पत्नी की माता के पिता थे यदि सज्जन की केवल एक बेटी है, तो P तथा D किस प्रकार सम्बंधित है?

Options :

1. ✘ बेटा
2. ✘ पोता/नवासा
3. ✘ बहनोई
4. ✔ दामाद

Question Number : 16 Question Id : 99836717916 Question Type : MCQ Option Shuffling : Yes Display Question Number : Yes Single Line Question Option : No Option Orientation : Vertical

Correct Marks : 1 Wrong Marks : 0.25

If the letters H, B, P, O, S and I are numbered 1, 2, 3, 4, 5 and 6 respectively. Select that combination of numbers so that letters arranged accordingly, form a meaningful word.

Options :

1. ✔ 265143
2. ✘ 314256
3. ✘ 126534
4. ✘ 641532

Question Number : 16 Question Id : 99836717916 Question Type : MCQ Option Shuffling : Yes Display Question Number : Yes Single Line Question Option : No Option Orientation : Vertical

Correct Marks : 1 Wrong Marks : 0.25

यदि अक्षर H, B, P, O, S और I क्रमशः 1, 2, 3, 4, 5 और 6 क्रमांकित हैं। संख्याओं के उस संयोजन का चयन करें, जो अक्षरों के अनुसार व्यवस्थित हो, और एक सार्थक शब्द बन सके।

Options :

1. ✔ 265143
2. ✘ 314256
3. ✘ 126534
4. ✘ 641532

Question Number : 17 Question Id : 99836717917 Question Type : MCQ Option Shuffling : Yes Display Question Number : Yes Single Line Question Option : No Option Orientation : Vertical

Correct Marks : 1 Wrong Marks : 0.25

G, H, I, J, K and L are sitting in a circle facing away from the centre. H is facing opposite to K. I and J are not neighbours. J is to the left of G and I is to the right of K. Who is to the right of L?

Options :

1. ✔ H

2. ✘ I
3. ✘ G
4. ✘ K

Question Number : 17 Question Id : 99836717917 Question Type : MCQ Option Shuffling : Yes Display Question Number : Yes  
Single Line Question Option : No Option Orientation : Vertical

Correct Marks : 1 Wrong Marks : 0.25

G, H, I, J, K और L केंद्र की तरफ पीठ करके एक वृत्ताकार में बैठे हैं। H, K के सामने बैठा है I और J पड़ोसी नहीं हैं। J, G के ठीक बाएं है और I, K के दाएं है। L के दाएं कौन बैठा है?

Options :

1. ✔ H
2. ✘ I
3. ✘ G
4. ✘ K

Question Number : 18 Question Id : 99836717918 Question Type : MCQ Option Shuffling : Yes Display Question Number : Yes  
Single Line Question Option : No Option Orientation : Vertical

Correct Marks : 1 Wrong Marks : 0.25

The statements below are followed by two conclusions labelled I and II . Assuming that the information in the statements is true, even if it appears to be at variance with generally established facts, decide which conclusion (s) logically and definitely follow(s) from the information given in the statements.

Statements:

- I. Some cupboards are desks.
- II. All desks are chairs.

Conclusions:

- I. Some cupboards are chairs.
- II. Some chairs are desks.

Options :

1. ✘ Only conclusion I follows
2. ✘ Only conclusion II follows
3. ✔ Both conclusion I and II follows
4. ✘ Neither conclusion I nor II follows

Question Number : 18 Question Id : 99836717918 Question Type : MCQ Option Shuffling : Yes Display Question Number : Yes  
Single Line Question Option : No Option Orientation : Vertical

Correct Marks : 1 Wrong Marks : 0.25

नीचे दिए गए कथनों में I और II लेबल के दो निष्कर्ष दिए गए हैं। यह मानते हुए कि कथनों में जानकारी सत्य है, भले ही यह आम तौर पर स्थापित तथ्यों से अलग प्रतीत होता है यह निश्चय करें कि निष्कर्षों में दी गई जानकारी में से कौन-सा निष्कर्ष तार्किक है और निश्चित रूप से अनुसरण करता है।

कथन:

- I. कुछ अलमारी मेज़ हैं।
- II. सभी मेज़ कुर्सियाँ हैं।

निष्कर्ष:

- I. कुछ अलमारी कुर्सियाँ हैं।
- II. कुछ कुर्सियाँ मेज़ हैं।

Options :

1. ✘ केवल निष्कर्ष I अनुसरण करता है
2. ✘ केवल निष्कर्ष II अनुसरण करता है
3. ✔ दोनों निष्कर्ष I और II अनुसरण करते हैं

4. ✖ ना तो निष्कर्ष I और न ही II अनुसरण करता है

Question Number : 19 Question Id : 99836717919 Question Type : MCQ Option Shuffling : Yes Display Question Number : Yes  
Single Line Question Option : No Option Orientation : Vertical

Correct Marks : 1 Wrong Marks : 0.25

Read the given statement and conclusions carefully and decide which of the conclusions logically follow(s) from the statement.

Statement: In urban areas the number of men who wear mostly western outfits (shirt and trousers) is more than the number of women who wear western outfits.

Conclusion I : Indian women are less fashion conscious as Indian men.

Conclusion II : As more men are employed in urban India compared to women they have to wear formal western outfits when they go to work.

Options :

1. ✖ Only conclusion I follows
2. ✔ Only conclusion II follows
3. ✖ Both conclusion I and II follows
4. ✖ Neither conclusion I nor II follows

Question Number : 19 Question Id : 99836717919 Question Type : MCQ Option Shuffling : Yes Display Question Number : Yes  
Single Line Question Option : No Option Orientation : Vertical

Correct Marks : 1 Wrong Marks : 0.25

दिए गए कथन और निष्कर्ष को ध्यान से पढ़ें और निर्णय लें कि कथन में से कौन सा निष्कर्ष तार्किक रूप से अनुसरण करता है

कथन: शहरी क्षेत्रों में पश्चिमी पोशाक (शर्ट और पतलून) पहनने वाले पुरुषों की संख्या पश्चिमी पोशाक पहनने वाली महिलाओं की संख्या से अधिक है।

निष्कर्ष I: भारतीय महिलाएं भारतीय पुरुषों की तुलना में फैशन के प्रति कम अभिज्ञ जागरूक हैं।

निष्कर्ष II: शहरी भारत में अधिक पुरुष महिलाओं की तुलना में नौकरी करते हैं, औपचारिक पश्चिमी पोशाक पहननी पड़ती है।

Options :

1. ✖ केवल निष्कर्ष I अनुसरण करता है
2. ✔ केवल निष्कर्ष II अनुसरण करता है
3. ✖ दोनों निष्कर्ष I और II अनुसरण करते हैं
4. ✖ ना तो निष्कर्ष I और न ही II अनुसरण करता है

Question Number : 20 Question Id : 99836717920 Question Type : MCQ Option Shuffling : Yes Display Question Number : Yes  
Single Line Question Option : No Option Orientation : Vertical

Correct Marks : 1 Wrong Marks : 0.25

Which two signs should be interchanged to make the below equation mathematically correct?

$$37 - 15 \times 2 + 28 \div 7 = 30$$

Options :

1. ✔ +, ×
2. ✖ ×, ÷
3. ✖ +, ÷
4. ✖ -, +

Question Number : 20 Question Id : 99836717920 Question Type : MCQ Option Shuffling : Yes Display Question Number : Yes  
Single Line Question Option : No Option Orientation : Vertical

Correct Marks : 1 Wrong Marks : 0.25

नीचे दिए गए समीकरण को गणितीय रूप से सही बनाने के लिए किन दो चिन्हों को परस्पर स्थानांतरित करना चाहिए?

$$37 - 15 \times 2 + 28 \div 7 = 30$$

Options :

1. ✓ +, ×
2. ✗ ×, ÷
3. ✗ +, ÷
4. ✗ -, +

Mental Ability2

Group Number :	2
Group Id :	998367631
Group Maximum Duration :	0
Group Minimum Duration :	0
Revisit allowed for view? :	No
Revisit allowed for edit? :	No
Break time:	0
Group Marks:	20
Revisit allowed for group Instructions? :	Yes
Maximum Instruction Time:	0
Minimum Instruction Time:	0

Mental Ability2

Section Id :	998367752
Section Number :	1
Section type :	Online
Mandatory or Optional:	Mandatory
Number of Questions:	20
Number of Questions to be attempted:	20
Section Marks:	20
Display Number Panel:	Yes
Group All Questions:	No

Sub-Section Number:	1
Sub-Section Id:	998367960
Question Shuffling Allowed :	Yes

Question Number : 21 Question Id : 99836717921 Question Type : MCQ Option Shuffling : Yes Display Question Number : Yes  
Single Line Question Option : No Option Orientation : Vertical

Correct Marks : 1 Wrong Marks : 0.25

Which two numbers should be interchanged to make the below equation mathematically correct?

$$36 - 24 \times 4 + 72 \div 6 = 15$$

Options :

1. ✗ 4, 24
2. ✓ 6, 24
3. ✗ 24, 36
4. ✗ 36, 72

Question Number : 21 Question Id : 99836717921 Question Type : MCQ Option Shuffling : Yes Display Question Number : Yes  
Single Line Question Option : No Option Orientation : Vertical

Correct Marks : 1 Wrong Marks : 0.25

नीचे दिए गए समीकरण को गणितीय रूप से सही बनाने के लिए किन दो संख्याओं को परस्पर स्थानांतरित किया जाना चाहिए?

$$36 - 24 \times 4 + 72 \div 6 = 15$$

Options :

1. ✘ 4, 24
2. ✔ 6, 24
3. ✘ 24, 36
4. ✘ 36, 72

Question Number : 22 Question Id : 99836717922 Question Type : MCQ Option Shuffling : Yes Display Question Number : Yes  
Single Line Question Option : No Option Orientation : Vertical

Correct Marks : 1 Wrong Marks : 0.25

Select the option that is related to the third term in the same way as the second term is related to the first term.

$$14 : 98 :: 18 : ?$$

Options :

1. ✘ 130
2. ✔ 162
3. ✘ 90
4. ✘ 184

Question Number : 22 Question Id : 99836717922 Question Type : MCQ Option Shuffling : Yes Display Question Number : Yes  
Single Line Question Option : No Option Orientation : Vertical

Correct Marks : 1 Wrong Marks : 0.25

उस विकल्प का चयन करें जो तीसरे पद से उसी प्रकार से संबंधित है जिस प्रकार से पहला पद दूसरे पद से संबंधित है।

$$14 : 98 :: 18 : ?$$

Options :

1. ✘ 130
2. ✔ 162
3. ✘ 90
4. ✘ 184

Question Number : 23 Question Id : 99836717923 Question Type : MCQ Option Shuffling : Yes Display Question Number : Yes  
Single Line Question Option : No Option Orientation : Vertical

Correct Marks : 1 Wrong Marks : 0.25

A number series is given below in which one number is incorrect. Find the INCORRECT number in the series.

8, 10, 14, 20, 30, 38, 50.

Options :

1. ✘ 14
2. ✔ 30
3. ✘ 38
4. ✘ 50

Question Number : 23 Question Id : 99836717923 Question Type : MCQ Option Shuffling : Yes Display Question Number : Yes  
Single Line Question Option : No Option Orientation : Vertical

Correct Marks : 1 Wrong Marks : 0.25

एक नंबर श्रृंखला नीचे दी गई है जिसमें एक नंबर गलत है श्रृंखला में गलत संख्या ज्ञात करें

8, 10, 14, 20, 30, 38, 50

Options :

1. ✘ 14
2. ✔ 30
3. ✘ 38
4. ✘ 50

Question Number : 24 Question Id : 99836717924 Question Type : MCQ Option Shuffling : Yes Display Question Number : Yes  
Single Line Question Option : No Option Orientation : Vertical

Correct Marks : 1 Wrong Marks : 0.25

Out of the given options, three are similar in a certain manner. However, one option is NOT like the other three. Select the option which is different from the rest.

Options :

1. ✘ 71
2. ✘ 61
3. ✔ 51
4. ✘ 41

Question Number : 24 Question Id : 99836717924 Question Type : MCQ Option Shuffling : Yes Display Question Number : Yes  
Single Line Question Option : No Option Orientation : Vertical

Correct Marks : 1 Wrong Marks : 0.25

दिए गए विकल्पों में से, तीन एक निश्चित तरीके से समान हैं। हालाँकि, एक विकल्प अन्य तीन की तरह नहीं है। उस विकल्प का चयन करें जो बाकी से अलग है।

Options :

1. ✘ 71
2. ✘ 61
3. ✔ 51
4. ✘ 41

Question Number : 25 Question Id : 99836717925 Question Type : MCQ Option Shuffling : Yes Display Question Number : Yes  
Single Line Question Option : No Option Orientation : Vertical

Correct Marks : 1 Wrong Marks : 0.25

Select the option that is related to the third term on the same basis as the second term is related to the first term.

142857 : 999999 :: 285714 : ?

Options :

1. ✔ 1999998
2. ✘ 199998
3. ✘ 198989
4. ✘ 189998

Question Number : 25 Question Id : 99836717925 Question Type : MCQ Option Shuffling : Yes Display Question Number : Yes  
Single Line Question Option : No Option Orientation : Vertical

Correct Marks : 1 Wrong Marks : 0.25

उस विकल्प का चयन करें जो तीसरे पद से उसी प्रकार से संबंधित है जिस प्रकार से पहला पद दूसरे पद से संबंधित है।

142857 : 999999 :: 285714 : ?

Options :

1. ✓ 1999998
2. ✗ 199998
3. ✗ 198989
4. ✗ 189998

Question Number : 26 Question Id : 99836717926 Question Type : MCQ Option Shuffling : Yes Display Question Number : Yes  
Single Line Question Option : No Option Orientation : Vertical

Correct Marks : 1 Wrong Marks : 0.25

Complete the following number series.

2, 9, 28, 65, 126, \_\_\_\_\_

Options :

1. ✓ 217
2. ✗ 215
3. ✗ 213
4. ✗ 211

Question Number : 26 Question Id : 99836717926 Question Type : MCQ Option Shuffling : Yes Display Question Number : Yes  
Single Line Question Option : No Option Orientation : Vertical

Correct Marks : 1 Wrong Marks : 0.25

निम्नलिखित संख्या श्रृंखला को पूरा करें

2, 9, 28, 65, 126, \_\_\_\_\_

Options :

1. ✓ 217
2. ✗ 215
3. ✗ 213
4. ✗ 211

Question Number : 27 Question Id : 99836717927 Question Type : MCQ Option Shuffling : Yes Display Question Number : Yes  
Single Line Question Option : No Option Orientation : Vertical

Correct Marks : 1 Wrong Marks : 0.25

If  $4\#2 = 20$ ,  $9\#6 = 30$ ,  $11\#1 = 100$  then find the value of  $7\#3 = ?$

Options :

1. ✗ 21
2. ✓ 40
3. ✗ 20
4. ✗ 42

Question Number : 27 Question Id : 99836717927 Question Type : MCQ Option Shuffling : Yes Display Question Number : Yes  
Single Line Question Option : No Option Orientation : Vertical

Correct Marks : 1 Wrong Marks : 0.25

यदि  $4\#2 = 20$ ,  $9\#6 = 30$ ,  $11\#1 = 100$  तो  $7\#3 =$  का मान ज्ञात कीजिए?

Options :

1. ✗ 21
2. ✓ 40
3. ✗ 20
4. ✗ 42

Question Number : 28 Question Id : 99836717928 Question Type : MCQ Option Shuffling : Yes Display Question Number : Yes  
Single Line Question Option : No Option Orientation : Vertical

Correct Marks : 1 Wrong Marks : 0.25

Out of the given number pairs, three are similar in a certain manner. However, one pair is NOT like the other three. Select the pair which is different from the rest.

Options :

1. ✘ 4, 15
2. ✘ 5, 24
3. ✘ 3, 8
4. ✔ 6, 37

Question Number : 28 Question Id : 99836717928 Question Type : MCQ Option Shuffling : Yes Display Question Number : Yes  
Single Line Question Option : No Option Orientation : Vertical

Correct Marks : 1 Wrong Marks : 0.25

दिए गए संख्या जोड़ियों में से, तीन एक निश्चित तरीके से समान हैं। हालाँकि, एक जोड़ी अन्य तीन की तरह नहीं है। उस जोड़ी का चयन करें जो बाकियों से अलग हो।

Options :

1. ✘ 4, 15
2. ✘ 5, 24
3. ✘ 3, 8
4. ✔ 6, 37

Question Number : 29 Question Id : 99836717929 Question Type : MCQ Option Shuffling : Yes Display Question Number : Yes  
Single Line Question Option : No Option Orientation : Vertical

Correct Marks : 1 Wrong Marks : 0.25

Find the missing number in the given number series.

-3, -4, -7, -11, -18, ?, -47

Options :

1. ✘ -25
2. ✔ -29
3. ✘ -27
4. ✘ -31

Question Number : 29 Question Id : 99836717929 Question Type : MCQ Option Shuffling : Yes Display Question Number : Yes  
Single Line Question Option : No Option Orientation : Vertical

Correct Marks : 1 Wrong Marks : 0.25

दी गई संख्या श्रृंखला में लुप्त संख्या ज्ञात करें।

-3, -4, -7, -11, -18, ?, -47

Options :

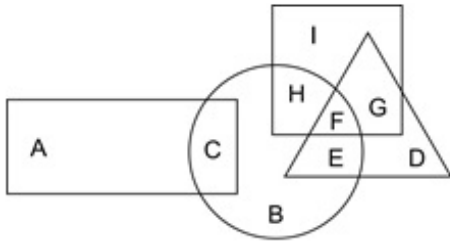
1. ✘ -25
2. ✔ -29
3. ✘ -27
4. ✘ -31

Question Number : 30 Question Id : 99836717930 Question Type : MCQ Option Shuffling : Yes Display Question Number : Yes  
Single Line Question Option : No Option Orientation : Vertical

Correct Marks : 1 Wrong Marks : 0.25



In the following figure, circle represents Asians, triangle represents astronomers, square represents farmers and rectangle represents women. Which set of letters represents Asians who are NOT farmers?



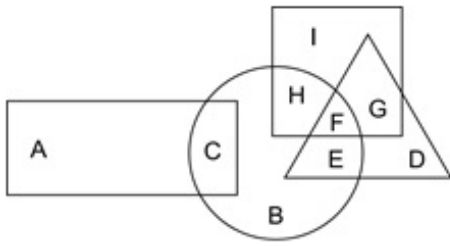
Options :

1. ✘ HF
2. ✘ IG
3. ✔ CBE
4. ✘ ED

Question Number : 30 Question Id : 99836717930 Question Type : MCQ Option Shuffling : Yes Display Question Number : Yes Single Line Question Option : No Option Orientation : Vertical

Correct Marks : 1 Wrong Marks : 0.25

निम्नलिखित आकृति में, वृत्त एशियाइयों को दर्शाता है, त्रिकोण खगोल-वैज्ञानियों को दर्शाता है, वर्ग किसानों को दर्शाता है और आयत महिलाओं को दर्शाता है। अक्षरों का कौन सा सेट एशियाइयों को दर्शाता है जो किसान नहीं हैं?



Options :

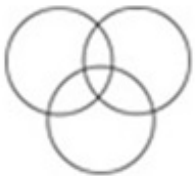
1. ✘ HF
2. ✘ IG
3. ✔ CBE
4. ✘ ED

Question Number : 31 Question Id : 99836717931 Question Type : MCQ Option Shuffling : Yes Display Question Number : Yes Single Line Question Option : No Option Orientation : Vertical

Correct Marks : 1 Wrong Marks : 0.25

Which of the following Venn diagrams best represents the relationship between sparrows, plants and insects?

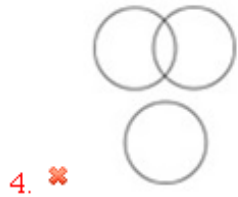
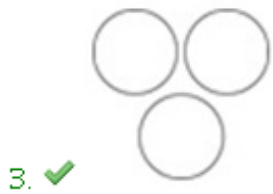
Options :



1. ✘



2. ✘

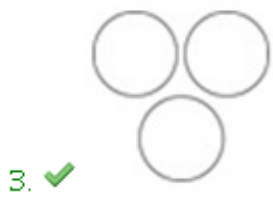
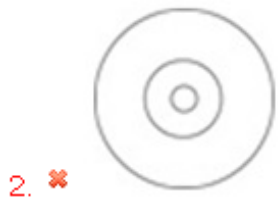
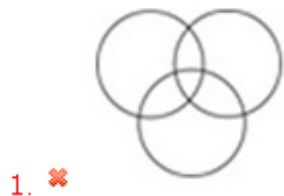


Question Number : 31 Question Id : 99836717931 Question Type : MCQ Option Shuffling : Yes Display Question Number : Yes  
Single Line Question Option : No Option Orientation : Vertical

Correct Marks : 1 Wrong Marks : 0.25

निम्न में से कौन सा वेन आरेख गौरैया, पौधे, कीटों के बीच के संबंध को सबसे अच्छा दर्शाता है?

Options :



Question Number : 32 Question Id : 99836717932 Question Type : MCQ Option Shuffling : Yes Display Question Number : Yes  
Single Line Question Option : No Option Orientation : Vertical

Correct Marks : 1 Wrong Marks : 0.25

Two planes E and F start from the same airport. Plane E flies 100 miles west, then turns left, flies 100 miles and lands. In the meanwhile plane F flies 75 miles South, then flies 125 miles east, then turns to its right, flies 25 miles and lands. Where is plane E with respect to plane F?

Options :

1. ✗ 25 miles East

2. ✘ 25 miles West
3. ✘ 225 miles East
4. ✔ 225 miles West

Question Number : 32 Question Id : 99836717932 Question Type : MCQ Option Shuffling : Yes Display Question Number : Yes Single Line Question Option : No Option Orientation : Vertical

Correct Marks : 1 Wrong Marks : 0.25

दो हवाई जहाज E और F एक ही हवाई अड्डा से उड़ान भरते हैं। हवाई जहाज E 100 मील पश्चिम की ओर उड़ता है, फिर बाएं मुड़कर 100 मील उड़ने के बाद जमीन पर उतरता है। इस दौरान हवाई जहाज F 75 मील दक्षिण की ओर उड़ता है, फिर 125 मील पूर्व की ओर उड़ान भरता है, फिर दाईं ओर मुड़ता है, 25 मील उड़ान भरकर जमीन पर उतरता है। हवाई जहाज F की संबंध में हवाई जहाज E कहाँ है?

Options :

1. ✘ 25 मील पूर्व
2. ✘ 25 मील पश्चिम
3. ✘ 225 मील पूर्व
4. ✔ 225 मील पश्चिम

Question Number : 33 Question Id : 99836717933 Question Type : MCQ Option Shuffling : Yes Display Question Number : Yes Single Line Question Option : No Option Orientation : Vertical

Correct Marks : 1 Wrong Marks : 0.25

Two artists A and B are working on a sculpture. A is facing south. He turns 180 degrees, then he turns 45 degrees clockwise and then he turns 90 degrees to his left. If now B is standing opposite A facing him, then in which direction is B facing?

Options :

1. ✔ South-East
2. ✘ North-West
3. ✘ South
4. ✘ North

Question Number : 33 Question Id : 99836717933 Question Type : MCQ Option Shuffling : Yes Display Question Number : Yes Single Line Question Option : No Option Orientation : Vertical

Correct Marks : 1 Wrong Marks : 0.25

दो कलाकार A और B एक मूर्तिकला पर काम कर रहे हैं। A का मुंह दक्षिण की ओर है। वह 180 डिग्री पर मुड़ता है, फिर वह 45 डिग्री दक्षिणावर्त घुमाता है, तथा 90 डिग्री अपने बाएं ओर मुड़ता है। यदि B अब, A के सामने खड़ा है, तो B किस दिशा में है?

Options :

1. ✔ दक्षिण-पूर्व
2. ✘ उत्तर पश्चिम
3. ✘ दक्षिण
4. ✘ उत्तर

Question Number : 34 Question Id : 99836717934 Question Type : MCQ Option Shuffling : Yes Display Question Number : Yes Single Line Question Option : No Option Orientation : Vertical

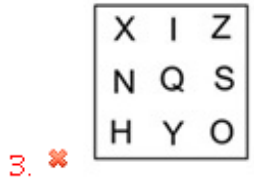
Correct Marks : 1 Wrong Marks : 0.25

Out of the four options three are similar in a certain way and one is different. Find the option which is different.

Options :

H	Q	Y
N	I	X
O	S	N

1. ✔



Question Number : 34 Question Id : 99836717934 Question Type : MCQ Option Shuffling : Yes Display Question Number : Yes  
Single Line Question Option : No Option Orientation : Vertical

Correct Marks : 1 Wrong Marks : 0.25

चार विकल्पों में से तीन एक निश्चित तरीके से समान हैं और एक अलग है। उस विकल्प को ज्ञात करें जो अलग है।

Options :

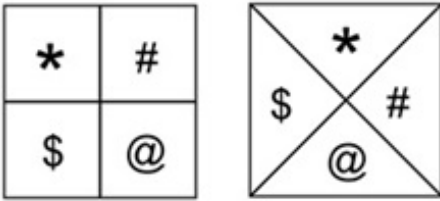


Question Number : 35 Question Id : 99836717935 Question Type : MCQ Option Shuffling : Yes Display Question Number : Yes  
Single Line Question Option : No Option Orientation : Vertical

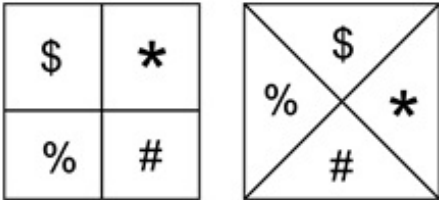
Correct Marks : 1 Wrong Marks : 0.25

Four pairs of figures are given. Three pairs are similar in a certain way and one is different. Find the pair of figure which is different.

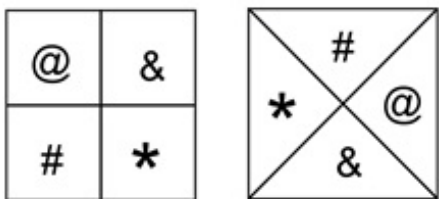
Options :



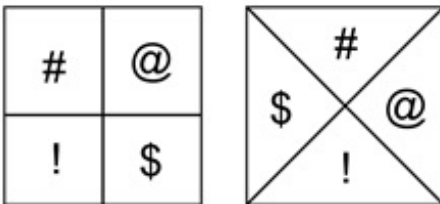
1. ✘



2. ✘



3. ✘



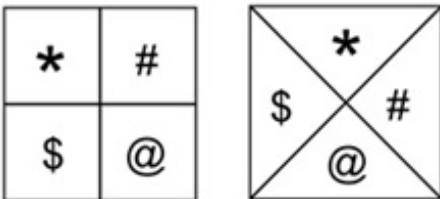
4. ✔

Question Number : 35 Question Id : 99836717935 Question Type : MCQ Option Shuffling : Yes Display Question Number : Yes Single Line Question Option : No Option Orientation : Vertical

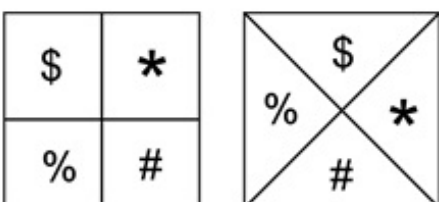
Correct Marks : 1 Wrong Marks : 0.25

चार आकृतियों के जोड़े दी गई हैं। तीन जोड़े एक निश्चित तरीके से समान हैं और एक अलग है। उस जोड़ी को ज्ञात करें जो अलग है।

Options :

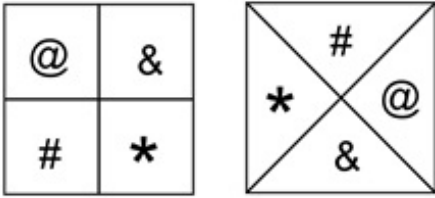


1. ✘

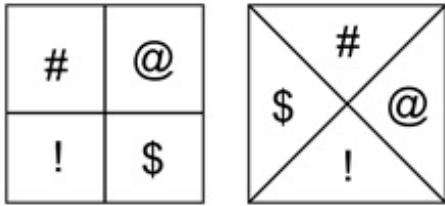


2. ✘

3. ✘



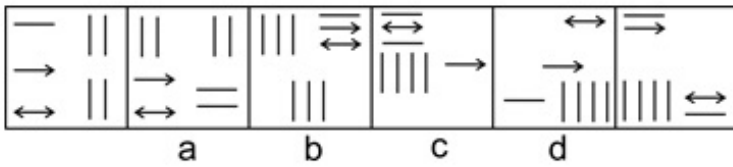
4. ✔



Question Number : 36 Question Id : 99836717936 Question Type : MCQ Option Shuffling : Yes Display Question Number : Yes Single Line Question Option : No Option Orientation : Vertical

Correct Marks : 1 Wrong Marks : 0.25

A figure series of 6 parts is given. Out of these, 4 parts are labelled A, B, C and D. Out of these 4 parts one part is incorrect. Find the INCORRECT part.



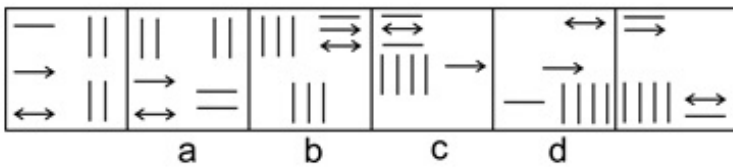
Options :

- 1. ✘ A
- 2. ✔ B
- 3. ✘ C
- 4. ✘ D

Question Number : 36 Question Id : 99836717936 Question Type : MCQ Option Shuffling : Yes Display Question Number : Yes Single Line Question Option : No Option Orientation : Vertical

Correct Marks : 1 Wrong Marks : 0.25

6 भागों की एक आकृति श्रृंखला दी गई है। इन में से चार भागों को A, B, C और D लेबल किया है। इन चार भागों में से एक गलत है।



Options :

- 1. ✘ A
- 2. ✔ B
- 3. ✘ C
- 4. ✘ D

Question Number : 37 Question Id : 99836717937 Question Type : MCQ Option Shuffling : Yes Display Question Number : Yes Single Line Question Option : No Option Orientation : Vertical

Correct Marks : 1 Wrong Marks : 0.25

If a cube is painted yellow on all sides and if it is cut into 27 smaller cubes then how many such cubes will have less than two sides painted yellow?

Options :

- 1. ✓ 7
- 2. ✗ 6
- 3. ✗ 8
- 4. ✗ 9

Question Number : 37 Question Id : 99836717937 Question Type : MCQ Option Shuffling : Yes Display Question Number : Yes Single Line Question Option : No Option Orientation : Vertical

Correct Marks : 1 Wrong Marks : 0.25

यदि एक घन को सभी तरफ पीले रंग में रंगा गया है और यदि इसे 27 छोटे घनों में काटा जाता है, तो ऐसे कितने घन होंगे जिसमें पीले रंग के दो से कम साइड होंगे?

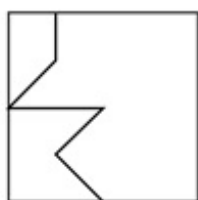
Options :

- 1. ✓ 7
- 2. ✗ 6
- 3. ✗ 8
- 4. ✗ 9

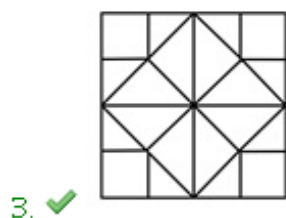
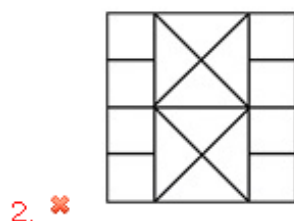
Question Number : 38 Question Id : 99836717938 Question Type : MCQ Option Shuffling : Yes Display Question Number : Yes Single Line Question Option : No Option Orientation : Vertical

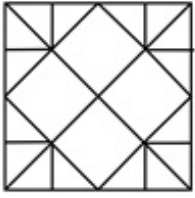
Correct Marks : 1 Wrong Marks : 0.25

From the given answer figures, select the one in which the question figure is hidden/embedded.



Options :



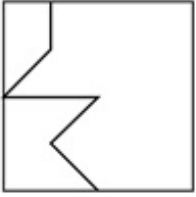


4. ✘

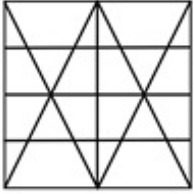
Question Number : 38 Question Id : 99836717938 Question Type : MCQ Option Shuffling : Yes Display Question Number : Yes Single Line Question Option : No Option Orientation : Vertical

Correct Marks : 1 Wrong Marks : 0.25

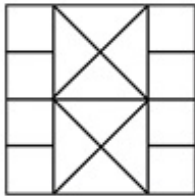
दी गई उत्तर आकृतियों में से, उस एक का चयन करें जिसमें प्रश्न आकृति निहित है।



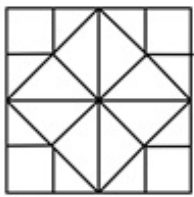
Options :



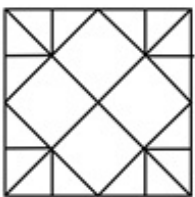
1. ✘



2. ✘



3. ✔



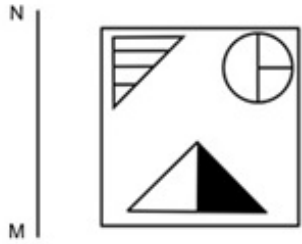
4. ✘

Question Number : 39 Question Id : 99836717939 Question Type : MCQ Option Shuffling : Yes Display Question Number : Yes Single Line Question Option : No Option Orientation : Vertical

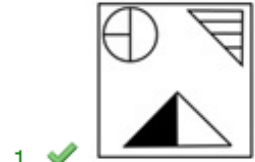
Correct Marks : 1 Wrong Marks : 0.25



If a mirror is placed on the line MN, then which of the answer figures will be the right mirror image of the given figure?



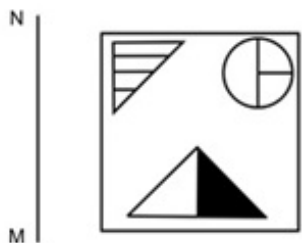
Options :



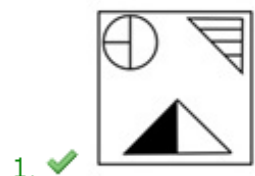
Question Number : 39 Question Id : 99836717939 Question Type : MCQ Option Shuffling : Yes Display Question Number : Yes  
Single Line Question Option : No Option Orientation : Vertical

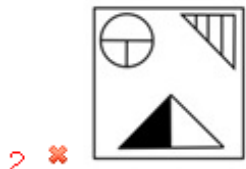
Correct Marks : 1 Wrong Marks : 0.25

यदि एक दर्पण को रेखा MN पर रखा गया है, तो कौन सी उत्तर आकृति दी गई आकृति का सही दर्पण प्रतिबिंब होगा?



Options :

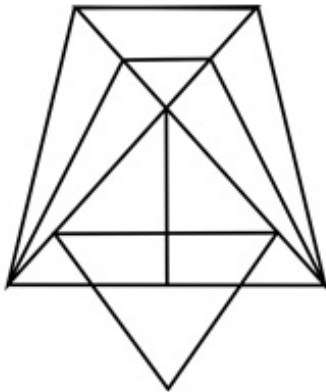




Question Number : 40 Question Id : 99836717940 Question Type : MCQ Option Shuffling : Yes Display Question Number : Yes  
Single Line Question Option : No Option Orientation : Vertical

Correct Marks : 1 Wrong Marks : 0.25

What is the minimum number of straight lines required to draw the given figure?



Options :

1. ✔ 13

2. ✘ 10

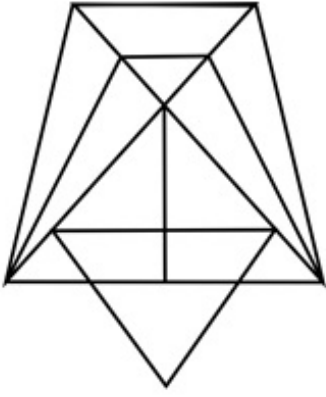
3. ✘ 11

4. ✘ 12

Question Number : 40 Question Id : 99836717940 Question Type : MCQ Option Shuffling : Yes Display Question Number : Yes  
Single Line Question Option : No Option Orientation : Vertical

Correct Marks : 1 Wrong Marks : 0.25

दी गई आकृति को बनाने के लिए आवश्यक सीधी रेखाओं की न्यूनतम संख्या क्या है?



Options :

1. ✓ 13
2. ✗ 10
3. ✗ 11
4. ✗ 12

#### General Awareness1

Group Number :	3
Group Id :	998367632
Group Maximum Duration :	0
Group Minimum Duration :	0
Revisit allowed for view? :	No
Revisit allowed for edit? :	No
Break time:	0
Group Marks:	20
Revisit allowed for group Instructions? :	Yes
Maximum Instruction Time:	0
Minimum Instruction Time:	0

#### General Awareness1

Section Id :	998367753
Section Number :	1
Section type :	Online
Mandatory or Optional:	Mandatory
Number of Questions:	20
Number of Questions to be attempted:	20
Section Marks:	20
Display Number Panel:	Yes
Group All Questions:	No

Sub-Section Number:	1
Sub-Section Id:	998367961
Question Shuffling Allowed :	Yes

Question Number : 41 Question Id : 99836717941 Question Type : MCQ Option Shuffling : Yes Display Question Number : Yes  
Single Line Question Option : No Option Orientation : Vertical

Correct Marks : 1 Wrong Marks : 0.25

Ghumra is a famous dance form of \_\_\_\_\_.

Options :

1. ✘ Gujarat
2. ✔ Odisha
3. ✘ Madhya Pradesh
4. ✘ Chhattisgarh

Question Number : 41 Question Id : 99836717941 Question Type : MCQ Option Shuffling : Yes Display Question Number : Yes  
Single Line Question Option : No Option Orientation : Vertical

Correct Marks : 1 Wrong Marks : 0.25

घुमरा \_\_\_\_\_ का एक प्रसिद्ध नृत्य रूप है।

Options :

1. ✘ गुजरात
2. ✔ ओडिशा
3. ✘ मध्य प्रदेश
4. ✘ छत्तीसगढ़

Question Number : 42 Question Id : 99836717942 Question Type : MCQ Option Shuffling : Yes Display Question Number : Yes  
Single Line Question Option : No Option Orientation : Vertical

Correct Marks : 1 Wrong Marks : 0.25

Which among the following folk musics does NOT belong to Rajasthan?

Options :

1. ✘ Maand
2. ✘ Pabuji ki Panch
3. ✘ Panihari
4. ✔ Baryi

Question Number : 42 Question Id : 99836717942 Question Type : MCQ Option Shuffling : Yes Display Question Number : Yes  
Single Line Question Option : No Option Orientation : Vertical

Correct Marks : 1 Wrong Marks : 0.25

निम्नलिखित में से कौन सा लोक संगीत राजस्थान का नहीं है?

Options :

1. ✘ मांड
2. ✘ पाबूजी की पंच
3. ✘ पनिहारी
4. ✔ बरई

Question Number : 43 Question Id : 99836717943 Question Type : MCQ Option Shuffling : Yes Display Question Number : Yes  
Single Line Question Option : No Option Orientation : Vertical

Correct Marks : 1 Wrong Marks : 0.25

\_\_\_\_\_ festival of Bihar is celebrated by mothers for their son on the 8th day of Krishna Paksha of Ashwin.

Options :

1. ✘ Teej
2. ✔ Jeutia
3. ✘ Das-Lakshan
4. ✘ Ramnavami

Question Number : 43 Question Id : 99836717943 Question Type : MCQ Option Shuffling : Yes Display Question Number : Yes  
Single Line Question Option : No Option Orientation : Vertical

Correct Marks : 1 Wrong Marks : 0.25

बिहार का \_\_\_\_\_ त्यौहार, आश्विन के कृष्ण पक्ष के 8 वें दिन माताओं द्वारा अपने बेटे के लिए मनाया जाता है।

Options :

1. ✘ तीज
2. ✔ जुड़िया
3. ✘ दसलक्षण
4. ✘ रामनवमी

Question Number : 44 Question Id : 99836717944 Question Type : MCQ Option Shuffling : Yes Display Question Number : Yes  
Single Line Question Option : No Option Orientation : Vertical

Correct Marks : 1 Wrong Marks : 0.25

The Taj Mahal is located on the right bank of the \_\_\_\_\_ River.

Options :

1. ✘ Godavari
2. ✔ Yamuna
3. ✘ Mahanadi
4. ✘ Krishna

Question Number : 44 Question Id : 99836717944 Question Type : MCQ Option Shuffling : Yes Display Question Number : Yes  
Single Line Question Option : No Option Orientation : Vertical

Correct Marks : 1 Wrong Marks : 0.25

ताज महल \_\_\_\_\_ नदी के दाहिने किनारे पर स्थित है।

Options :

1. ✘ गोदावरी
2. ✔ यमुना
3. ✘ महानदी
4. ✘ कृष्णा

Question Number : 45 Question Id : 99836717945 Question Type : MCQ Option Shuffling : Yes Display Question Number : Yes  
Single Line Question Option : No Option Orientation : Vertical

Correct Marks : 1 Wrong Marks : 0.25

The headquarters of State Bank of India is situated in \_\_\_\_\_.

Options :

1. ✔ Mumbai
2. ✘ Bangalore
3. ✘ Kolkata
4. ✘ New Delhi

Question Number : 45 Question Id : 99836717945 Question Type : MCQ Option Shuffling : Yes Display Question Number : Yes  
Single Line Question Option : No Option Orientation : Vertical

Correct Marks : 1 Wrong Marks : 0.25

भारतीय स्टेट बैंक का मुख्यालय \_\_\_\_\_ में स्थित है।

Options :

1. ✔ मुंबई
2. ✘ बंगलौर
3. ✘ कोलकाता

4. ✘ नई दिल्ली

Question Number : 46 Question Id : 99836717946 Question Type : MCQ Option Shuffling : Yes Display Question Number : Yes  
Single Line Question Option : No Option Orientation : Vertical

Correct Marks : 1 Wrong Marks : 0.25

Gross National Product at Market Price = Gross National Product at factor cost + \_\_\_\_\_.

Options :

1. ✔ net indirect taxes
2. ✘ depreciation
3. ✘ net income from abroad
4. ✘ subsidies

Question Number : 46 Question Id : 99836717946 Question Type : MCQ Option Shuffling : Yes Display Question Number : Yes  
Single Line Question Option : No Option Orientation : Vertical

Correct Marks : 1 Wrong Marks : 0.25

बाजार मूल्य पर सकल राष्ट्रीय उत्पाद = कारक लागत पर सकल राष्ट्रीय उत्पाद + \_\_\_\_\_।

Options :

1. ✔ निवल अप्रत्यक्ष कर
2. ✘ मूल्यहास
3. ✘ विदेश से निवल आय
4. ✘ राजसहायता

Question Number : 47 Question Id : 99836717947 Question Type : MCQ Option Shuffling : Yes Display Question Number : Yes  
Single Line Question Option : No Option Orientation : Vertical

Correct Marks : 1 Wrong Marks : 0.25

As announced in the Budget 2019, the Aspirational Districts Programme is providing targeted development to \_\_\_\_\_ most backward districts of the country.

Options :

1. ✘ 112
2. ✔ 115
3. ✘ 118
4. ✘ 120

Question Number : 47 Question Id : 99836717947 Question Type : MCQ Option Shuffling : Yes Display Question Number : Yes  
Single Line Question Option : No Option Orientation : Vertical

Correct Marks : 1 Wrong Marks : 0.25

बजट 2019 में घोषणा के अनुसार, एस्पिरेशनल डिस्ट्रिक्ट्स प्रोग्राम देश के \_\_\_\_\_ सबसे पिछड़े जिलों को लक्षित विकास प्रदान कर रहा है।

Options :

1. ✘ 112
2. ✔ 115
3. ✘ 118
4. ✘ 120

Question Number : 48 Question Id : 99836717948 Question Type : MCQ Option Shuffling : Yes Display Question Number : Yes  
Single Line Question Option : No Option Orientation : Vertical

Correct Marks : 1 Wrong Marks : 0.25

\_\_\_\_\_ states that temperature remaining constant, volume of a given mass of a gas varies inversely with the pressure of the gas.

Options :

1. ✓ Boyles's law
2. ✗ Hooke's law
3. ✗ Pascal's law
4. ✗ Charles's law

Question Number : 48 Question Id : 99836717948 Question Type : MCQ Option Shuffling : Yes Display Question Number : Yes  
Single Line Question Option : No Option Orientation : Vertical

Correct Marks : 1 Wrong Marks : 0.25

\_\_\_\_\_ कहता है कि तापमान स्थिर रहता है, गैस के दिए गए द्रव्यमान का आयतन गैस के दबाव के साथ व्युत्क्रमानुपाती होता है

Options :

1. ✓ बॉयल का नियम
2. ✗ हुक का नियम
3. ✗ पास्कल का नियम
4. ✗ चार्ल्स का नियम

Question Number : 49 Question Id : 99836717949 Question Type : MCQ Option Shuffling : Yes Display Question Number : Yes  
Single Line Question Option : No Option Orientation : Vertical

Correct Marks : 1 Wrong Marks : 0.25

Which among the following gases is used as an anaesthetic in dental surgery?

Options :

1. ✗ Sulphur Dioxide
2. ✓ Nitrous Oxide
3. ✗ Nitrogen Dioxide
4. ✗ Carbon Monoxide

Question Number : 49 Question Id : 99836717949 Question Type : MCQ Option Shuffling : Yes Display Question Number : Yes  
Single Line Question Option : No Option Orientation : Vertical

Correct Marks : 1 Wrong Marks : 0.25

दंत शल्य-चिकित्सा में निश्चेतक के रूप में निम्नलिखित गैसों में से किसका उपयोग किया जाता है?

Options :

1. ✗ सल्फर डाइऑक्साइड
2. ✓ नाइट्रस ऑक्साइड
3. ✗ नाइट्रोजन डाइऑक्साइड
4. ✗ कार्बन मोनोऑक्साइड

Question Number : 50 Question Id : 99836717950 Question Type : MCQ Option Shuffling : Yes Display Question Number : Yes  
Single Line Question Option : No Option Orientation : Vertical

Correct Marks : 1 Wrong Marks : 0.25

Sycon belongs to the \_\_\_\_\_ phylum.

Options :

1. ✓ porifera
2. ✗ cnidaria
3. ✗ platyhelminthes
4. ✗ ctenophora

Question Number : 50 Question Id : 99836717950 Question Type : MCQ Option Shuffling : Yes Display Question Number : Yes  
Single Line Question Option : No Option Orientation : Vertical

Correct Marks : 1 Wrong Marks : 0.25

साइकोन \_\_\_\_\_ संघ के अंतर्गत आता है

Options :

1. ✓ पोरीफेरा
2. ✗ निडारिया
3. ✗ प्लैटीहेल्मिन्थेस
4. ✗ टेनोफोरा

Question Number : 51 Question Id : 99836717951 Question Type : MCQ Option Shuffling : Yes Display Question Number : Yes  
Single Line Question Option : No Option Orientation : Vertical

Correct Marks : 1 Wrong Marks : 0.25

Fusion between one large, non-motile (static) female gamete and a smaller, motile male gamete in algae is termed as \_\_\_\_\_.

Options :

1. ✓ oogamous
2. ✗ anisogamous
3. ✗ isogamous
4. ✗ zoospores

Question Number : 51 Question Id : 99836717951 Question Type : MCQ Option Shuffling : Yes Display Question Number : Yes  
Single Line Question Option : No Option Orientation : Vertical

Correct Marks : 1 Wrong Marks : 0.25

शैवाल में एक बड़े, अचल (स्थिर) मादा गैमीट और एक छोटे, गतिशील नर युग्मक के बीच संलयन को \_\_\_\_\_ के रूप में कहा जाता है।

Options :

1. ✓ ऊगोमस
2. ✗ अनीसोगोमस
3. ✗ आइसोगोमस
4. ✗ जूस्पोर्स

Question Number : 52 Question Id : 99836717952 Question Type : MCQ Option Shuffling : Yes Display Question Number : Yes  
Single Line Question Option : No Option Orientation : Vertical

Correct Marks : 1 Wrong Marks : 0.25

Sariska Wildlife Sanctuary is situated in \_\_\_\_\_.

Options :

1. ✓ Rajasthan
2. ✗ Gujarat
3. ✗ Karnataka
4. ✗ Kerala

Question Number : 52 Question Id : 99836717952 Question Type : MCQ Option Shuffling : Yes Display Question Number : Yes  
Single Line Question Option : No Option Orientation : Vertical

Correct Marks : 1 Wrong Marks : 0.25

सरिस्का वन्यजीव अभयारण्य \_\_\_\_\_ में स्थित है।

Options :

1. ✓ राजस्थान
2. ✗ गुजरात
3. ✗ कर्नाटक
4. ✗ केरल

Question Number : 53 Question Id : 99836717953 Question Type : MCQ Option Shuffling : Yes Display Question Number : Yes  
Single Line Question Option : No Option Orientation : Vertical



Correct Marks : 1 Wrong Marks : 0.25

MODWS stands for \_\_\_\_\_.

Options :

1. ✓ Ministry of Drinking Water and Sanitation
2. ✗ Ministry of District Water and Sandfill
3. ✗ Ministry of District Waterways and Sanitation
4. ✗ Ministry of Drinking Water and Sandfill

Question Number : 53 Question Id : 99836717953 Question Type : MCQ Option Shuffling : Yes Display Question Number : Yes  
Single Line Question Option : No Option Orientation : Vertical

Correct Marks : 1 Wrong Marks : 0.25

MODWS का संक्षिप्तीकरण \_\_\_\_\_ है।

Options :

1. ✓ मिनिस्ट्री ऑफ़ ड्रिंकिंग वाटर एंड सैनिटेशन
2. ✗ मिनिस्ट्री ऑफ़ डिस्ट्रिक्ट वाटर एंड सैंडफिल
3. ✗ मिनिस्ट्री ऑफ़ डिस्ट्रिक्ट वाटरवेस एंड सैनिटेशन
4. ✗ मिनिस्ट्री ऑफ़ ड्रिंकिंग वाटर एंड सैंडफिल

Question Number : 54 Question Id : 99836717954 Question Type : MCQ Option Shuffling : Yes Display Question Number : Yes  
Single Line Question Option : No Option Orientation : Vertical

Correct Marks : 1 Wrong Marks : 0.25

The National Academies of Sciences, Engineering and Medicine determined that an adequate daily fluid intake for men is \_\_\_\_\_.

Options :

1. ✓ 3.7 litres
2. ✗ 5.5 litres
3. ✗ 6.8 litres
4. ✗ 9.2 litres

Question Number : 54 Question Id : 99836717954 Question Type : MCQ Option Shuffling : Yes Display Question Number : Yes  
Single Line Question Option : No Option Orientation : Vertical

Correct Marks : 1 Wrong Marks : 0.25

नेशनल एकेडमी ऑफ़ साइंसेज, इंजीनियरिंग एंड मेडिसिन ने निर्धारित किया कि पुरुषों के लिए पर्याप्त दैनिक तरल पदार्थ का सेवन \_\_\_\_\_ है।

Options :

1. ✓ 3.7 लीटर
2. ✗ 5.5 लीटर
3. ✗ 6.8 लीटर
4. ✗ 9.2 लीटर

Question Number : 55 Question Id : 99836717955 Question Type : MCQ Option Shuffling : Yes Display Question Number : Yes  
Single Line Question Option : No Option Orientation : Vertical

Correct Marks : 1 Wrong Marks : 0.25

What is the normal body temperature?

Options :

1. ✓ 37 °C
2. ✗ 35 °C
3. ✗ 32 °C
4. ✗ 28 °C

Question Number : 55 Question Id : 99836717955 Question Type : MCQ Option Shuffling : Yes Display Question Number : Yes  
Single Line Question Option : No Option Orientation : Vertical

Correct Marks : 1 Wrong Marks : 0.25

शरीर का सामान्य तापमान क्या है?

Options :

1. ✓ 37 °C
2. ✗ 35 °C
3. ✗ 32 °C
4. ✗ 28 °C

Question Number : 56 Question Id : 99836717956 Question Type : MCQ Option Shuffling : Yes Display Question Number : Yes  
Single Line Question Option : No Option Orientation : Vertical

Correct Marks : 1 Wrong Marks : 0.25

Seonath is a tributary of the \_\_\_\_\_ river.

Options :

1. ✓ Mahanadi
2. ✗ Ravi
3. ✗ Chambal
4. ✗ Indus

Question Number : 56 Question Id : 99836717956 Question Type : MCQ Option Shuffling : Yes Display Question Number : Yes  
Single Line Question Option : No Option Orientation : Vertical

Correct Marks : 1 Wrong Marks : 0.25

सेओनाथ \_\_\_\_\_ नदी की एक सहायक नदी है।

Options :

1. ✓ महानदी
2. ✗ रवि
3. ✗ चंबल
4. ✗ सिंधु

Question Number : 57 Question Id : 99836717957 Question Type : MCQ Option Shuffling : Yes Display Question Number : Yes  
Single Line Question Option : No Option Orientation : Vertical

Correct Marks : 1 Wrong Marks : 0.25

The \_\_\_\_\_ is actually the youngest of the major oceans.

Options :

1. ✗ Pacific Ocean
2. ✗ Atlantic Ocean
3. ✓ Indian Ocean
4. ✗ Arctic Ocean

Question Number : 57 Question Id : 99836717957 Question Type : MCQ Option Shuffling : Yes Display Question Number : Yes  
Single Line Question Option : No Option Orientation : Vertical

Correct Marks : 1 Wrong Marks : 0.25

\_\_\_\_\_ वास्तव में प्रमुख महासागरों में सबसे छोटा है।

Options :

1. ✗ प्रशांत महासागर
2. ✗ अटलांटिक महासागर

3. ✓ हिंद महासागर
4. ✗ उत्तरध्रुवीय महासागर

Question Number : 58 Question Id : 99836717958 Question Type : MCQ Option Shuffling : Yes Display Question Number : Yes  
Single Line Question Option : No Option Orientation : Vertical

Correct Marks : 1 Wrong Marks : 0.25

\_\_\_\_\_ is known for highest rainfall.

Options :

1. ✗ Himalayan Range
2. ✗ Karakoram Range
3. ✓ Purvanchal Range
4. ✗ Vindhya Range

Question Number : 58 Question Id : 99836717958 Question Type : MCQ Option Shuffling : Yes Display Question Number : Yes  
Single Line Question Option : No Option Orientation : Vertical

Correct Marks : 1 Wrong Marks : 0.25

\_\_\_\_\_ को उच्चतम वर्षा के लिए जाना जाता है।

Options :

1. ✗ हिमालयन रेंज
2. ✗ काराकोरम रेंज
3. ✓ पूर्वांचल रेंज
4. ✗ विन्ध्याचल रेंज

Question Number : 59 Question Id : 99836717959 Question Type : MCQ Option Shuffling : Yes Display Question Number : Yes  
Single Line Question Option : No Option Orientation : Vertical

Correct Marks : 1 Wrong Marks : 0.25

Which among the following is NOT true for Alluvial Soil?

Options :

1. ✗ It is highly fertile.
2. ✗ It is rich in potash.
3. ✗ Humus, lime and organic matters are present.
4. ✓ Old alluvium is termed as Khadar.

Question Number : 59 Question Id : 99836717959 Question Type : MCQ Option Shuffling : Yes Display Question Number : Yes  
Single Line Question Option : No Option Orientation : Vertical

Correct Marks : 1 Wrong Marks : 0.25

निम्नलिखित में से कौन सा एल्यूवियल मृदा के लिए सच नहीं है?

Options :

1. ✗ यह अत्यधिक उपजाऊ है।
2. ✗ यह पोटाश में समृद्ध है।
3. ✗ धरण, चूना और कार्बनिक पदार्थ मौजूद हैं।
4. ✓ पुराने जलोढ़ को खादर कहा जाता है।

Question Number : 60 Question Id : 99836717960 Question Type : MCQ Option Shuffling : Yes Display Question Number : Yes  
Single Line Question Option : No Option Orientation : Vertical

Correct Marks : 1 Wrong Marks : 0.25

The commercial capital of Sri Lanka is \_\_\_\_\_.

Options :

1. ✗ Male

2. ✓ Colombo
3. ✗ Jayewardenepura Kotte
4. ✗ Naypyidaw

Question Number : 60 Question Id : 99836717960 Question Type : MCQ Option Shuffling : Yes Display Question Number : Yes  
Single Line Question Option : No Option Orientation : Vertical

Correct Marks : 1 Wrong Marks : 0.25

श्रीलंका की वाणिज्यिक राजधानी \_\_\_\_\_ है।

Options :

1. ✗ माले
2. ✓ कोलंबो
3. ✗ जयवर्धनेपुरा कोट्टी
4. ✗ नाएप्यीडॉ

#### General Awareness2

Group Number :	4
Group Id :	998367633
Group Maximum Duration :	0
Group Minimum Duration :	0
Revisit allowed for view? :	No
Revisit allowed for edit? :	No
Break time:	0
Group Marks:	20
Revisit allowed for group Instructions? :	Yes
Maximum Instruction Time:	0
Minimum Instruction Time:	0

#### General Awareness2

Section Id :	998367754
Section Number :	1
Section type :	Online
Mandatory or Optional:	Mandatory
Number of Questions:	20
Number of Questions to be attempted:	20
Section Marks:	20
Display Number Panel:	Yes
Group All Questions:	No

Sub-Section Number:	1
Sub-Section Id:	998367962
Question Shuffling Allowed :	Yes

Question Number : 61 Question Id : 99836717961 Question Type : MCQ Option Shuffling : Yes Display Question Number : Yes  
Single Line Question Option : No Option Orientation : Vertical

Correct Marks : 1 Wrong Marks : 0.25

The rabi season begins in \_\_\_\_\_.

Options :

1. ✓ winter
2. ✗ autumn
3. ✗ summer
4. ✗ spring

Question Number : 61 Question Id : 99836717961 Question Type : MCQ Option Shuffling : Yes Display Question Number : Yes  
Single Line Question Option : No Option Orientation : Vertical

Correct Marks : 1 Wrong Marks : 0.25

रबी का मौसम \_\_\_\_\_ में शुरू होता है।

Options :

1. ✓ सर्दी
2. ✗ पतझड़
3. ✗ गर्मी
4. ✗ वसंत

Question Number : 62 Question Id : 99836717962 Question Type : MCQ Option Shuffling : Yes Display Question Number : Yes  
Single Line Question Option : No Option Orientation : Vertical

Correct Marks : 1 Wrong Marks : 0.25

When did the Akali Movement start?

Options :

1. ✗ 1918
2. ✓ 1920
3. ✗ 1925
4. ✗ 1915

Question Number : 62 Question Id : 99836717962 Question Type : MCQ Option Shuffling : Yes Display Question Number : Yes  
Single Line Question Option : No Option Orientation : Vertical

Correct Marks : 1 Wrong Marks : 0.25

अकाली आंदोलन कब शुरू हुआ?

Options :

1. ✗ 1918
2. ✓ 1920
3. ✗ 1925
4. ✗ 1915

Question Number : 63 Question Id : 99836717963 Question Type : MCQ Option Shuffling : Yes Display Question Number : Yes  
Single Line Question Option : No Option Orientation : Vertical

Correct Marks : 1 Wrong Marks : 0.25

When was the Morley-Minto Reform Act introduced?

Options :

1. ✗ 1912
2. ✓ 1909
3. ✗ 1915
4. ✗ 1905

Question Number : 63 Question Id : 99836717963 Question Type : MCQ Option Shuffling : Yes Display Question Number : Yes  
Single Line Question Option : No Option Orientation : Vertical

Correct Marks : 1 Wrong Marks : 0.25

मॉर्ले-मिंटो सुधार अधिनियम कब पेश किया गया था?

Options :

1. ✘ 1912
2. ✔ 1909
3. ✘ 1915
4. ✘ 1905

Question Number : 64 Question Id : 99836717964 Question Type : MCQ Option Shuffling : Yes Display Question Number : Yes  
Single Line Question Option : No Option Orientation : Vertical

Correct Marks : 1 Wrong Marks : 0.25

What was the real name of Jahangir?

Options :

1. ✔ Nooruddin Salim
2. ✘ Jalaluddin Mohammed
3. ✘ Naseeruddin Mohammed
4. ✘ Muhiuddin Mohammed

Question Number : 64 Question Id : 99836717964 Question Type : MCQ Option Shuffling : Yes Display Question Number : Yes  
Single Line Question Option : No Option Orientation : Vertical

Correct Marks : 1 Wrong Marks : 0.25

जहाँगीर का वास्तविक नाम क्या था?

Options :

1. ✔ नूरुद्दीन सलीम
2. ✘ जलालुद्दीन मोहम्मद
3. ✘ नसीरुद्दीन मोहम्मद
4. ✘ मुहिउद्दीन मोहम्मद

Question Number : 65 Question Id : 99836717965 Question Type : MCQ Option Shuffling : Yes Display Question Number : Yes  
Single Line Question Option : No Option Orientation : Vertical

Correct Marks : 1 Wrong Marks : 0.25

Lothal city of the Indus Valley Civilisation is situated on the bank of the river .....

Options :

1. ✘ Luni
2. ✘ Ghaggar
3. ✘ Indus
4. ✔ Bhogava

Question Number : 65 Question Id : 99836717965 Question Type : MCQ Option Shuffling : Yes Display Question Number : Yes  
Single Line Question Option : No Option Orientation : Vertical

Correct Marks : 1 Wrong Marks : 0.25

सिंधु घाटी सभ्यता का लोथल शहर ..... नदी के तट पर स्थित है

Options :

1. ✘ लूणी
2. ✘ घग्गर
3. ✘ सिंधु
4. ✔ भोगावा

Question Number : 66 Question Id : 99836717966 Question Type : MCQ Option Shuffling : Yes Display Question Number : Yes  
Single Line Question Option : No Option Orientation : Vertical

Correct Marks : 1 Wrong Marks : 0.25

\_\_\_\_\_ wrote Tuzuk-i-Babri in Turkish.

Options :

1. ✘ Jahangir
2. ✘ Akbar
3. ✘ Humayun
4. ✔ Babur

Question Number : 66 Question Id : 99836717966 Question Type : MCQ Option Shuffling : Yes Display Question Number : Yes  
Single Line Question Option : No Option Orientation : Vertical

Correct Marks : 1 Wrong Marks : 0.25

\_\_\_\_\_ ने तुर्की में तुजुक-ए-बाबरी लिखी।

Options :

1. ✘ जहाँगीर
2. ✘ अकबर
3. ✘ हुमायूँ
4. ✔ बाबर

Question Number : 67 Question Id : 99836717967 Question Type : MCQ Option Shuffling : Yes Display Question Number : Yes  
Single Line Question Option : No Option Orientation : Vertical

Correct Marks : 1 Wrong Marks : 0.25

Abdul Hassan, Ustad Mansur and Bishandas were the famous painters of \_\_\_\_\_ court.

Options :

1. ✘ Babur's
2. ✔ Jahangir's
3. ✘ Akbar's
4. ✘ Aurangzeb's

Question Number : 67 Question Id : 99836717967 Question Type : MCQ Option Shuffling : Yes Display Question Number : Yes  
Single Line Question Option : No Option Orientation : Vertical

Correct Marks : 1 Wrong Marks : 0.25

अब्दुल हसन, उस्ताद मंसूर और बिशनदास \_\_\_\_\_ के राज-दरबार के प्रसिद्ध चित्रकार थे।

Options :

1. ✘ बाबर
2. ✔ जहाँगीर
3. ✘ अकबर
4. ✘ औरंगज़ेब

Question Number : 68 Question Id : 99836717968 Question Type : MCQ Option Shuffling : Yes Display Question Number : Yes  
Single Line Question Option : No Option Orientation : Vertical

Correct Marks : 1 Wrong Marks : 0.25

'Undisputed Truth: My Autobiography' is the autobiography of \_\_\_\_\_.

Options :

1. ✘ Rafael Nadal
2. ✘ Michael Holding
3. ✔ Mike Tyson
4. ✘ Usain Bolt

Question Number : 68 Question Id : 99836717968 Question Type : MCQ Option Shuffling : Yes Display Question Number : Yes  
Single Line Question Option : No Option Orientation : Vertical

Correct Marks : 1 Wrong Marks : 0.25

अनडिस्प्यूटेड ट्रूथ: माय ऑटोबायोग्राफी' \_\_\_\_\_ की आत्मकथा है।

Options :

1. ✘ रफ़ाएल नडाल
2. ✘ माइकल होल्डिंग
3. ✔ माइक टायसन
4. ✘ उसेन बोल्ट

Question Number : 69 Question Id : 99836717969 Question Type : MCQ Option Shuffling : Yes Display Question Number : Yes  
Single Line Question Option : No Option Orientation : Vertical

Correct Marks : 1 Wrong Marks : 0.25

Which among the following books is NOT written by Jhumpa Lahiri?

Options :

1. ✘ The Lowland
2. ✘ In Other Words
3. ✘ Interpreter of Maladies
4. ✔ White Tiger

Question Number : 69 Question Id : 99836717969 Question Type : MCQ Option Shuffling : Yes Display Question Number : Yes  
Single Line Question Option : No Option Orientation : Vertical

Correct Marks : 1 Wrong Marks : 0.25

निम्नलिखित पुस्तकों में से किसे झुम्पा लाहिड़ी द्वारा नहीं लिखी गई है?

Options :

1. ✘ द लोलेंड
2. ✘ इन अदर वर्ड्स
3. ✘ इंटरप्रेटर ऑफ़ मालाडीएस
4. ✔ वाइट टाइगर

Question Number : 70 Question Id : 99836717970 Question Type : MCQ Option Shuffling : Yes Display Question Number : Yes  
Single Line Question Option : No Option Orientation : Vertical

Correct Marks : 1 Wrong Marks : 0.25

Abhay Ghat is the memorial of which of the following famous leaders?

Options :

1. ✘ Rajiv Gandhi
2. ✘ Charan Singh
3. ✔ Morarjee Desai
4. ✘ Indira Gandhi

Question Number : 70 Question Id : 99836717970 Question Type : MCQ Option Shuffling : Yes Display Question Number : Yes  
Single Line Question Option : No Option Orientation : Vertical

Correct Marks : 1 Wrong Marks : 0.25

अभय घाट निम्नलिखित में से किस प्रसिद्ध नेता का स्मारक है?

Options :

1. ✘ राजीव गांधी
2. ✘ चरण सिंह
3. ✔ मोरारजी देसाई
4. ✘ इंदिरा गांधी



Question Number : 71 Question Id : 99836717971 Question Type : MCQ Option Shuffling : Yes Display Question Number : Yes  
Single Line Question Option : No Option Orientation : Vertical

Correct Marks : 1 Wrong Marks : 0.25

The headquarters of World Trade Organisation is situated at \_\_\_\_\_.

Options :

1. ✘ New York
2. ✘ Washington DC
3. ✔ Geneva
4. ✘ Paris

Question Number : 71 Question Id : 99836717971 Question Type : MCQ Option Shuffling : Yes Display Question Number : Yes  
Single Line Question Option : No Option Orientation : Vertical

Correct Marks : 1 Wrong Marks : 0.25

विश्व व्यापार संगठन का मुख्यालय \_\_\_\_\_ में स्थित है।

Options :

1. ✘ न्यूयॉर्क
2. ✘ वॉशिंगटन डी सी
3. ✔ जिनेवा
4. ✘ पेरिस

Question Number : 72 Question Id : 99836717972 Question Type : MCQ Option Shuffling : Yes Display Question Number : Yes  
Single Line Question Option : No Option Orientation : Vertical

Correct Marks : 1 Wrong Marks : 0.25

When was the first rocket launched from India?

Options :

1. ✘ 1965
2. ✔ 1963
3. ✘ 1972
4. ✘ 1975

Question Number : 72 Question Id : 99836717972 Question Type : MCQ Option Shuffling : Yes Display Question Number : Yes  
Single Line Question Option : No Option Orientation : Vertical

Correct Marks : 1 Wrong Marks : 0.25

भारत से पहला रॉकेट प्रक्षेपण कब लॉन्च किया गया था?

Options :

1. ✘ 1965
2. ✔ 1963
3. ✘ 1972
4. ✘ 1975

Question Number : 73 Question Id : 99836717973 Question Type : MCQ Option Shuffling : Yes Display Question Number : Yes  
Single Line Question Option : No Option Orientation : Vertical

Correct Marks : 1 Wrong Marks : 0.25

Budhaditya Mukherjee is awarded Padma Bhushan for his contribution in the field of \_\_\_\_\_.

Options :

1. ✔ Art-Music-Sitar
2. ✘ Journalism
3. ✘ Science & Engineering-Space
4. ✘ Art-Acting-Films

Question Number : 73 Question Id : 99836717973 Question Type : MCQ Option Shuffling : Yes Display Question Number : Yes  
Single Line Question Option : No Option Orientation : Vertical

Correct Marks : 1 Wrong Marks : 0.25

बुधादित्य मुखर्जी को \_\_\_\_\_ के क्षेत्र में उनके योगदान के लिए पद्म भूषण से सम्मानित किया गया है।

Options :

1. ✓ कला-संगीत-सितार
2. ✗ पत्रकारिता
3. ✗ विज्ञान और इंजीनियरिंग-स्पेस
4. ✗ कला-अभिनय फिल्म

Question Number : 74 Question Id : 99836717974 Question Type : MCQ Option Shuffling : Yes Display Question Number : Yes  
Single Line Question Option : No Option Orientation : Vertical

Correct Marks : 1 Wrong Marks : 0.25

Which part of the Indian Constitution deals with finance, property, contracts and suits?

Options :

1. ✗ Part X
2. ✓ Part XII
3. ✗ Part VIII
4. ✗ Part V

Question Number : 74 Question Id : 99836717974 Question Type : MCQ Option Shuffling : Yes Display Question Number : Yes  
Single Line Question Option : No Option Orientation : Vertical

Correct Marks : 1 Wrong Marks : 0.25

भारतीय संविधान का कौन सा भाग वित्त, संपत्ति, अनुबंध और सूट से संबंधित है?

Options :

1. ✗ भाग X
2. ✓ भाग XII
3. ✗ भाग VIII
4. ✗ भाग V

Question Number : 75 Question Id : 99836717975 Question Type : MCQ Option Shuffling : Yes Display Question Number : Yes  
Single Line Question Option : No Option Orientation : Vertical

Correct Marks : 1 Wrong Marks : 0.25

Part \_\_\_\_\_ of the Indian Constitution deals with emergency provisions.

Options :

1. ✗ XVI
2. ✗ XX
3. ✗ XIX
4. ✓ XVIII

Question Number : 75 Question Id : 99836717975 Question Type : MCQ Option Shuffling : Yes Display Question Number : Yes  
Single Line Question Option : No Option Orientation : Vertical

Correct Marks : 1 Wrong Marks : 0.25

भारतीय संविधान का भाग \_\_\_\_\_ आपातकालीन प्रावधानों से संबंधित है।

Options :

1. ✗ XVI
2. ✗ XX
3. ✗ XIX

4. ✓ XVIII

Question Number : 76 Question Id : 99836717976 Question Type : MCQ Option Shuffling : Yes Display Question Number : Yes  
Single Line Question Option : No Option Orientation : Vertical

Correct Marks : 1 Wrong Marks : 0.25

Prohibition of employment of children in factories comes under \_\_\_\_\_.

Options :

1. ✗ Cultural and Educational Rights
2. ✗ Right to Equality
3. ✗ Right to Freedom
4. ✓ Right against Exploitation

Question Number : 76 Question Id : 99836717976 Question Type : MCQ Option Shuffling : Yes Display Question Number : Yes  
Single Line Question Option : No Option Orientation : Vertical

Correct Marks : 1 Wrong Marks : 0.25

कारखानों में बच्चों के रोजगार पर प्रतिबंध \_\_\_\_\_ के तहत आता है।

Options :

1. ✗ सांस्कृतिक और शैक्षिक अधिकार
2. ✗ समानता का अधिकार
3. ✗ स्वतंत्रता का अधिकार
4. ✓ शोषण के खिलाफ अधिकार

Question Number : 77 Question Id : 99836717977 Question Type : MCQ Option Shuffling : Yes Display Question Number : Yes  
Single Line Question Option : No Option Orientation : Vertical

Correct Marks : 1 Wrong Marks : 0.25

The Constituent Assembly held \_\_\_\_\_ sessions covering a total of 165 days.

Options :

1. ✓ 11
2. ✗ 15
3. ✗ 14
4. ✗ 10

Question Number : 77 Question Id : 99836717977 Question Type : MCQ Option Shuffling : Yes Display Question Number : Yes  
Single Line Question Option : No Option Orientation : Vertical

Correct Marks : 1 Wrong Marks : 0.25

संविधान सभा ने कुल 165 दिनों के लिए \_\_\_\_\_ अधिवेशन आयोजित किए।

Options :

1. ✓ 11
2. ✗ 15
3. ✗ 14
4. ✗ 10

Question Number : 78 Question Id : 99836717978 Question Type : MCQ Option Shuffling : Yes Display Question Number : Yes  
Single Line Question Option : No Option Orientation : Vertical

Correct Marks : 1 Wrong Marks : 0.25

Apart from Trent Boult, who became the first cricketer to claim the first hat-trick of the cricket World Cup 2019?

Options :

1. ✗ Vijay Shankar

2. ✓ Muhammad Shami
3. ✗ Bhuvneshwar Kumar
4. ✗ Yuzvendra Chahal

Question Number : 78 Question Id : 99836717978 Question Type : MCQ Option Shuffling : Yes Display Question Number : Yes  
Single Line Question Option : No Option Orientation : Vertical

Correct Marks : 1 Wrong Marks : 0.25

ट्रेट बोल्ट के अलावा, क्रिकेट विश्व कप 2019 की पहली हैट्रिक का दावा करने वाले पहले क्रिकेटर कौन बने?

Options :

1. ✗ विजय शंकर
2. ✓ मुहम्मद शमी
3. ✗ भुवनेश्वर कुमार
4. ✗ युज़वेंद्र चहल

Question Number : 79 Question Id : 99836717979 Question Type : MCQ Option Shuffling : Yes Display Question Number : Yes  
Single Line Question Option : No Option Orientation : Vertical

Correct Marks : 1 Wrong Marks : 0.25

Who was the first player who has scored 10,000 runs in ODI cricket?

Options :

1. ✗ Virat Kohli
2. ✗ Rahul Dravid
3. ✓ Sachin Tendulkar
4. ✗ Saurav Ganguly

Question Number : 79 Question Id : 99836717979 Question Type : MCQ Option Shuffling : Yes Display Question Number : Yes  
Single Line Question Option : No Option Orientation : Vertical

Correct Marks : 1 Wrong Marks : 0.25

ODI क्रिकेट में 10,000 रन बनाने वाला पहला खिलाड़ी कौन है?

Options :

1. ✗ विरार कोहली
2. ✗ राहुल द्रविड़
3. ✓ सचिन तेंदुलकर
4. ✗ सौरव गांगुली

Question Number : 80 Question Id : 99836717980 Question Type : MCQ Option Shuffling : Yes Display Question Number : Yes  
Single Line Question Option : No Option Orientation : Vertical

Correct Marks : 1 Wrong Marks : 0.25

The first Commonwealth Games were organised in \_\_\_\_\_ in 1930.

Options :

1. ✓ Canada
2. ✗ France
3. ✗ England
4. ✗ Australia

Question Number : 80 Question Id : 99836717980 Question Type : MCQ Option Shuffling : Yes Display Question Number : Yes  
Single Line Question Option : No Option Orientation : Vertical

Correct Marks : 1 Wrong Marks : 0.25

1930 में \_\_\_\_\_ में पहले राष्ट्रमंडल खेलों का आयोजन किया गया था।

Options :

1. ✓ कनाडा
2. ✗ फ्रांस
3. ✗ इंगलैंड
4. ✗ ऑस्ट्रेलिया

Arithmetic Ability1

Group Number :	5
Group Id :	998367634
Group Maximum Duration :	0
Group Minimum Duration :	0
Revisit allowed for view? :	No
Revisit allowed for edit? :	No
Break time:	0
Group Marks:	20
Revisit allowed for group Instructions? :	Yes
Maximum Instruction Time:	0
Minimum Instruction Time:	0

Arithmetic Ability1

Section Id :	998367755
Section Number :	1
Section type :	Online
Mandatory or Optional:	Mandatory
Number of Questions:	20
Number of Questions to be attempted:	20
Section Marks:	20
Display Number Panel:	Yes
Group All Questions:	No

Sub-Section Number:	1
Sub-Section Id:	998367963
Question Shuffling Allowed :	Yes

Question Number : 81 Question Id : 99836717981 Question Type : MCQ Option Shuffling : Yes Display Question Number : Yes  
Single Line Question Option : No Option Orientation : Vertical

Correct Marks : 1 Wrong Marks : 0.25

Find the value of:

$$(0.16 \times 250 + 250) \div 5 - 0.125 \div (0.5 \times 0.25)$$

Options :

1. ✓ 57
2. ✗ 83
3. ✗ 79
4. ✗ 75

Question Number : 81 Question Id : 99836717981 Question Type : MCQ Option Shuffling : Yes Display Question Number : Yes  
Single Line Question Option : No Option Orientation : Vertical

Correct Marks : 1 Wrong Marks : 0.25

मूल्य ज्ञात करें

$$(0.16 \times 250 + 250) \div 5 - 0.125 \div (0.5 \times 0.25)$$

Options :

1. ✓ 57
2. ✗ 83
3. ✗ 79
4. ✗ 75

Question Number : 82 Question Id : 99836717982 Question Type : MCQ Option Shuffling : Yes Display Question Number : Yes  
Single Line Question Option : No Option Orientation : Vertical

Correct Marks : 1 Wrong Marks : 0.25

Find the value of:

$$335 \div (5 \times 2) + 16 \times 2 - 14 \times 2$$

Options :

1. ✗ 35.2
2. ✓ 37.5
3. ✗ 39.6
4. ✗ 32.2

Question Number : 82 Question Id : 99836717982 Question Type : MCQ Option Shuffling : Yes Display Question Number : Yes  
Single Line Question Option : No Option Orientation : Vertical

Correct Marks : 1 Wrong Marks : 0.25

मूल्य ज्ञात करें

$$335 \div (5 \times 2) + 16 \times 2 - 14 \times 2$$

Options :

1. ✗ 35.2
2. ✓ 37.5
3. ✗ 39.6
4. ✗ 32.2

Question Number : 83 Question Id : 99836717983 Question Type : MCQ Option Shuffling : Yes Display Question Number : Yes  
Single Line Question Option : No Option Orientation : Vertical

Correct Marks : 1 Wrong Marks : 0.25

Three workers start hammering their swords at regular intervals of 10 seconds, 15 seconds & 20 seconds, how many times do they strike together in 6 minutes?

Options :

1. ✓ 6
2. ✗ 8
3. ✗ 10
4. ✗ 12

Question Number : 83 Question Id : 99836717983 Question Type : MCQ Option Shuffling : Yes Display Question Number : Yes  
Single Line Question Option : No Option Orientation : Vertical

Correct Marks : 1 Wrong Marks : 0.25

तीन लोग 10 सेकंड, 15 सेकंड और 20 सेकंड के नियमित अंतराल पर अपनी तलवार चलाना शुरू करते हैं, 6 मिनट में वे कितनी बार एक साथ वार करते हैं?

Options :

1. ✓ 6
2. ✗ 8
3. ✗ 10
4. ✗ 12

Question Number : 84 Question Id : 99836717984 Question Type : MCQ Option Shuffling : Yes Display Question Number : Yes  
Single Line Question Option : No Option Orientation : Vertical

Correct Marks : 1 Wrong Marks : 0.25

Find the value of x.

$$(x+1) + 2x = 9 + x$$

Options :

1. ✗ 1
2. ✗ 2
3. ✗ 3
4. ✓ 4

Question Number : 84 Question Id : 99836717984 Question Type : MCQ Option Shuffling : Yes Display Question Number : Yes  
Single Line Question Option : No Option Orientation : Vertical

Correct Marks : 1 Wrong Marks : 0.25

x का मान ज्ञात करें

$$(x+1) + 2x = 9 + x$$

Options :

1. ✗ 1
2. ✗ 2
3. ✗ 3
4. ✓ 4

Question Number : 85 Question Id : 99836717985 Question Type : MCQ Option Shuffling : Yes Display Question Number : Yes  
Single Line Question Option : No Option Orientation : Vertical

Correct Marks : 1 Wrong Marks : 0.25

Find the square root of 104329.

Options :

1. ✓ 323
2. ✗ 279
3. ✗ 342
4. ✗ 183

Question Number : 85 Question Id : 99836717985 Question Type : MCQ Option Shuffling : Yes Display Question Number : Yes  
Single Line Question Option : No Option Orientation : Vertical

Correct Marks : 1 Wrong Marks : 0.25

104329 का वर्गमूल ज्ञात करें

Options :

1. ✓ 323
2. ✗ 279
3. ✗ 342
4. ✗ 183

Question Number : 86 Question Id : 99836717986 Question Type : MCQ Option Shuffling : Yes Display Question Number : Yes  
Single Line Question Option : No Option Orientation : Vertical

Correct Marks : 1 Wrong Marks : 0.25

Find the value of:

$$12 - \{5 + 16 \div (8 + 2 \times 1 - 6) - 8\}$$

Options :

1. ✘ 15
2. ✘ 13
3. ✘ 10
4. ✔ 11

Question Number : 86 Question Id : 99836717986 Question Type : MCQ Option Shuffling : Yes Display Question Number : Yes  
Single Line Question Option : No Option Orientation : Vertical

Correct Marks : 1 Wrong Marks : 0.25

मूल्य ज्ञात करें

$$12 - \{5 + 16 \div (8 + 2 \times 1 - 6) - 8\}$$

Options :

1. ✘ 15
2. ✘ 13
3. ✘ 10
4. ✔ 11

Question Number : 87 Question Id : 99836717987 Question Type : MCQ Option Shuffling : Yes Display Question Number : Yes  
Single Line Question Option : No Option Orientation : Vertical

Correct Marks : 1 Wrong Marks : 0.25

Find the value of:

$$\sqrt{9 + \sqrt{36 + \sqrt{169}}}$$

Options :

1. ✘ 1
2. ✘ 2
3. ✘ 3
4. ✔ 4

Question Number : 87 Question Id : 99836717987 Question Type : MCQ Option Shuffling : Yes Display Question Number : Yes  
Single Line Question Option : No Option Orientation : Vertical

Correct Marks : 1 Wrong Marks : 0.25

मूल्य ज्ञात करें

$$\sqrt{9 + \sqrt{36 + \sqrt{169}}}$$

Options :

1. ✘ 1
2. ✘ 2
3. ✘ 3
4. ✔ 4

Question Number : 88 Question Id : 99836717988 Question Type : MCQ Option Shuffling : Yes Display Question Number : Yes  
Single Line Question Option : No Option Orientation : Vertical

Correct Marks : 1 Wrong Marks : 0.25



Evaluate :  $y - 1/y = ?$  ; if  $(y-1) = 1/y$

Options :

1. ✓ 1
2. ✗  $1/y$
3. ✗  $2y$
4. ✗  $-1$

Question Number : 88 Question Id : 99836717988 Question Type : MCQ Option Shuffling : Yes Display Question Number : Yes  
Single Line Question Option : No Option Orientation : Vertical

Correct Marks : 1 Wrong Marks : 0.25

मूल्यांकन करें  $y - 1/y = ?$  ; यदि  $(y-1) = 1/y$

Options :

1. ✓ 1
2. ✗  $1/y$
3. ✗  $2y$
4. ✗  $-1$

Question Number : 89 Question Id : 99836717989 Question Type : MCQ Option Shuffling : Yes Display Question Number : Yes  
Single Line Question Option : No Option Orientation : Vertical

Correct Marks : 1 Wrong Marks : 0.25

If  $P@Q = 3P - 4Q$ ; then find the value of  $(3@4) - (2@2)$ .

Options :

1. ✗  $-1$
2. ✓  $-5$
3. ✗  $2$
4. ✗  $4$

Question Number : 89 Question Id : 99836717989 Question Type : MCQ Option Shuffling : Yes Display Question Number : Yes  
Single Line Question Option : No Option Orientation : Vertical

Correct Marks : 1 Wrong Marks : 0.25

यदि  $P@Q = 3P - 4Q$ ; तो  $(3@4) - (2@2)$  का मूल्य ज्ञात करें

Options :

1. ✗  $-1$
2. ✓  $-5$
3. ✗  $2$
4. ✗  $4$

Question Number : 90 Question Id : 99836717990 Question Type : MCQ Option Shuffling : Yes Display Question Number : Yes  
Single Line Question Option : No Option Orientation : Vertical

Correct Marks : 1 Wrong Marks : 0.25

Simplify :

$(10 \times 3/4) / (6 \times 5/8)$

Options :

1. ✗ 1
2. ✓ 2
3. ✗ 3
4. ✗ 4

Question Number : 90 Question Id : 99836717990 Question Type : MCQ Option Shuffling : Yes Display Question Number : Yes  
Single Line Question Option : No Option Orientation : Vertical

Correct Marks : 1 Wrong Marks : 0.25

सरल करें:

$$(10 \times 3/4) / (6 \times 5/8)$$

Options :

1. ✘ 1

2. ✔ 2

3. ✘ 3

4. ✘ 4

Question Number : 91 Question Id : 99836717991 Question Type : MCQ Option Shuffling : Yes Display Question Number : Yes  
Single Line Question Option : No Option Orientation : Vertical

Correct Marks : 1 Wrong Marks : 0.25

20 boys and 15 girls attended a party. If the boys ate twice the food as compared to the girls, then calculate the average food consumed by the boys. The total food provided was 9 kg?

Options :

1. ✘ 150 g

2. ✘ 200 g

3. ✔ 300 g

4. ✘ 450 g

Question Number : 91 Question Id : 99836717991 Question Type : MCQ Option Shuffling : Yes Display Question Number : Yes  
Single Line Question Option : No Option Orientation : Vertical

Correct Marks : 1 Wrong Marks : 0.25

एक पार्टी में 20 लड़के और 15 लड़कियां शामिल हुईं। अगर लड़के लड़कियों की तुलना में दोगुना खाना खा लेते हैं, तो लड़कों द्वारा खाए जाने वाले औसत भोजन की गणना करें। प्रदान किया गया कुल भोजन 9 किलो था?

Options :

1. ✘ 150 g

2. ✘ 200 g

3. ✔ 300 g

4. ✘ 450 g

Question Number : 92 Question Id : 99836717992 Question Type : MCQ Option Shuffling : Yes Display Question Number : Yes  
Single Line Question Option : No Option Orientation : Vertical

Correct Marks : 1 Wrong Marks : 0.25

Find the average of the first 6 odd prime numbers?

Options :

1. ✘ 8.33

2. ✔ 9.33

3. ✘ 9.67

4. ✘ 8.67

Question Number : 92 Question Id : 99836717992 Question Type : MCQ Option Shuffling : Yes Display Question Number : Yes  
Single Line Question Option : No Option Orientation : Vertical

Correct Marks : 1 Wrong Marks : 0.25

पहले 6 विषम अभाज्य संख्या का औसत ज्ञात करें?

Options :

1. ✘ 8.33
2. ✔ 9.33
3. ✘ 9.67
4. ✘ 8.67

Question Number : 93 Question Id : 99836717993 Question Type : MCQ Option Shuffling : Yes Display Question Number : Yes  
Single Line Question Option : No Option Orientation : Vertical

Correct Marks : 1 Wrong Marks : 0.25

A class of 30 students scored an average of 64.5 marks in a test. If the teacher had wrongly added 36 instead of 63 for one particular student then the correct average of marks is \_\_\_\_\_.

Options :

1. ✔ 65.4
2. ✘ 63.6
3. ✘ 66.3
4. ✘ 65.5

Question Number : 93 Question Id : 99836717993 Question Type : MCQ Option Shuffling : Yes Display Question Number : Yes  
Single Line Question Option : No Option Orientation : Vertical

Correct Marks : 1 Wrong Marks : 0.25

एक परीक्षा में 30 छात्रों की एक कक्षा ने औसतन 64.5 अंक हासिल किए। यदि शिक्षक ने एक विशेष छात्र के लिए 63 के बजाय 36 गलती से जोड़ा था तो अंकों का सही औसत \_\_\_\_\_ है।

Options :

1. ✔ 65.4
2. ✘ 63.6
3. ✘ 66.3
4. ✘ 65.5

Question Number : 94 Question Id : 99836717994 Question Type : MCQ Option Shuffling : Yes Display Question Number : Yes  
Single Line Question Option : No Option Orientation : Vertical

Correct Marks : 1 Wrong Marks : 0.25

When 40 percent of a number is added to 48, the result is the number itself. Find the number.

Options :

1. ✘ 76
2. ✔ 80
3. ✘ 84
4. ✘ 88

Question Number : 94 Question Id : 99836717994 Question Type : MCQ Option Shuffling : Yes Display Question Number : Yes  
Single Line Question Option : No Option Orientation : Vertical

Correct Marks : 1 Wrong Marks : 0.25

जब किसी संख्या का 40 प्रतिशत, 48 में जोड़ा जाता है, तो परिणाम स्वयं संख्या होती है। संख्या ज्ञात करें।

Options :

1. ✘ 76
2. ✔ 80
3. ✘ 84
4. ✘ 88

Question Number : 95 Question Id : 99836717995 Question Type : MCQ Option Shuffling : Yes Display Question Number : Yes  
Single Line Question Option : No Option Orientation : Vertical

Correct Marks : 1 Wrong Marks : 0.25

What percentage is 12 of 20?

Options :

1. ✘ 20 percent
2. ✘ 40 percent
3. ✔ 60 percent
4. ✘ 80 percent

Question Number : 95 Question Id : 99836717995 Question Type : MCQ Option Shuffling : Yes Display Question Number : Yes  
Single Line Question Option : No Option Orientation : Vertical

Correct Marks : 1 Wrong Marks : 0.25

12, 20 का कितना प्रतिशत है?

Options :

1. ✘ 20 प्रतिशत
2. ✘ 40 प्रतिशत
3. ✔ 60 प्रतिशत
4. ✘ 80 प्रतिशत

Question Number : 96 Question Id : 99836717996 Question Type : MCQ Option Shuffling : Yes Display Question Number : Yes  
Single Line Question Option : No Option Orientation : Vertical

Correct Marks : 1 Wrong Marks : 0.25

The price of a fruit is increased by 30 percent and then decreased by 30 percent. What is the net change in percent?

Options :

1. ✘ 3 percent increase
2. ✔ 9 percent decrease
3. ✘ 9 percent increase
4. ✘ 3 percent decrease

Question Number : 96 Question Id : 99836717996 Question Type : MCQ Option Shuffling : Yes Display Question Number : Yes  
Single Line Question Option : No Option Orientation : Vertical

Correct Marks : 1 Wrong Marks : 0.25

एक फल की कीमत में 30 प्रतिशत की वृद्धि होती है और फिर 30 प्रतिशत की कमी होती है, शुद्ध परिवर्तन प्रतिशत में क्या है?

Options :

1. ✘ 3 प्रतिशत वृद्धि
2. ✔ 9 प्रतिशत कमी
3. ✘ 9 प्रतिशत वृद्धि
4. ✘ 3 प्रतिशत कमी

Question Number : 97 Question Id : 99836717997 Question Type : MCQ Option Shuffling : Yes Display Question Number : Yes  
Single Line Question Option : No Option Orientation : Vertical

Correct Marks : 1 Wrong Marks : 0.25

If an article is sold for Rs. 72, the profit is three times the cost price. What will be the profit if the same article is sold for Rs. 54?

Options :

1. ✔ Rs. 36
2. ✘ Rs. 45
3. ✘ Rs. 54
4. ✘ Rs. 63

Question Number : 97 Question Id : 99836717997 Question Type : MCQ Option Shuffling : Yes Display Question Number : Yes  
Single Line Question Option : No Option Orientation : Vertical

Correct Marks : 1 Wrong Marks : 0.25

यदि एक वस्तु को 72 रुपए में बेचा जाता है, लाभ लागत मूल्य का तीन गुना है। यदि वही वस्तु को 54 रुपए में बेचा जाता है तो कितना लाभ होगा?

Options :

1. ✓ 36 रुपए
2. ✗ 45 रुपए
3. ✗ 54 रुपए
4. ✗ 63 रुपए

Question Number : 98 Question Id : 99836717998 Question Type : MCQ Option Shuffling : Yes Display Question Number : Yes  
Single Line Question Option : No Option Orientation : Vertical

Correct Marks : 1 Wrong Marks : 0.25

An item sold for Rs. 24,000 yields a loss of 4 percent. Find the selling price to achieve a profit of 7 percent?

Options :

1. ✗ Rs. 25,500
2. ✓ Rs. 26,750
3. ✗ Rs. 27,250
4. ✗ Rs. 27,750

Question Number : 98 Question Id : 99836717998 Question Type : MCQ Option Shuffling : Yes Display Question Number : Yes  
Single Line Question Option : No Option Orientation : Vertical

Correct Marks : 1 Wrong Marks : 0.25

एक वस्तु 4 प्रतिशत की हानि पर 24,000 रुपए में बेची गई। 7 प्रतिशत का लाभ प्राप्त करने के लिए विक्रय मूल्य ज्ञात करें?

Options :

1. ✗ 25,500 रुपए
2. ✓ 26,750 रुपए
3. ✗ 27,250 रुपए
4. ✗ 27,750 रुपए

Question Number : 99 Question Id : 99836717999 Question Type : MCQ Option Shuffling : Yes Display Question Number : Yes  
Single Line Question Option : No Option Orientation : Vertical

Correct Marks : 1 Wrong Marks : 0.25

A dealer sells 450 sacks of wheat at 6 percent profit and 50 sacks of wheat at 2 percent loss. The cost price per sack of wheat is Rs. 800. What is his net profit?

Options :

1. ✓ Rs. 20,800
2. ✗ Rs. 21,400
3. ✗ Rs. 21,800
4. ✗ Rs. 23,200

Question Number : 99 Question Id : 99836717999 Question Type : MCQ Option Shuffling : Yes Display Question Number : Yes  
Single Line Question Option : No Option Orientation : Vertical

Correct Marks : 1 Wrong Marks : 0.25

एक विक्रेता 6 प्रतिशत लाभ पर 450 बोरी गेहूं बेचता है और 2 प्रतिशत नुकसान पर 50 बोरी गेहूं बेचता है। गेहूं की प्रति बोरी लागत 800 रुपए है। उसका शुद्ध लाभ क्या है?

Options :

1. ✓ 20,800 रुपए

2. ✘ 21,400 रुपए
3. ✘ 21,800 रुपए
4. ✘ 23,200 रुपए

Question Number : 100 Question Id : 99836718000 Question Type : MCQ Option Shuffling : Yes Display Question Number : Yes  
Single Line Question Option : No Option Orientation : Vertical

Correct Marks : 1 Wrong Marks : 0.25

A and B together earn Rs. 1500, if  $\frac{3}{2}$  of A's share is equal to  $\frac{1}{4}$  of B's share, how much does A earn?  
(Round off the numbers to the nearest rupee)

Options :

1. ✘ Rs. 815
2. ✔ Rs. 215
3. ✘ Rs. 1285
4. ✘ Rs. 750

Question Number : 100 Question Id : 99836718000 Question Type : MCQ Option Shuffling : Yes Display Question Number : Yes  
Single Line Question Option : No Option Orientation : Vertical

Correct Marks : 1 Wrong Marks : 0.25

A और B दोनों मिलकर 1500 रुपए कमाते हैं। यदि A के हिस्से का  $\frac{3}{2}$ , B के हिस्से के  $\frac{1}{4}$  के बराबर है, तो A कितना कमाता है? (संख्याओं को निकटतम रुपए तक सीमित करें)

Options :

1. ✘ 815 रुपए
2. ✔ 215 रुपए
3. ✘ 1,285 रुपए
4. ✘ 750 रुपए

#### Arithmetic Ability2

Group Number :	6
Group Id :	998367635
Group Maximum Duration :	0
Group Minimum Duration :	0
Revisit allowed for view? :	No
Revisit allowed for edit? :	No
Break time:	0
Group Marks:	20
Revisit allowed for group Instructions? :	Yes
Maximum Instruction Time:	0
Minimum Instruction Time:	0

#### Arithmetic Ability2

Section Id :	998367756
Section Number :	1
Section type :	Online
Mandatory or Optional:	Mandatory
Number of Questions:	20
Number of Questions to be attempted:	20
Section Marks:	20
Display Number Panel:	Yes

Group All Questions:

No

Sub-Section Number:

1

Sub-Section Id:

998367964

Question Shuffling Allowed :

Yes

Question Number : 101 Question Id : 99836718001 Question Type : MCQ Option Shuffling : Yes Display Question Number : Yes  
Single Line Question Option : No Option Orientation : Vertical

Correct Marks : 1 Wrong Marks : 0.25

Find the Inverse ratio of 2:5:7?

Options :

1. ✓ 35:14:10
2. ✗ 14:7:2
3. ✗ 7:14:5
4. ✗ 5:14:9

Question Number : 101 Question Id : 99836718001 Question Type : MCQ Option Shuffling : Yes Display Question Number : Yes  
Single Line Question Option : No Option Orientation : Vertical

Correct Marks : 1 Wrong Marks : 0.25

2:5:7 का व्युत्क्रम अनुपात ज्ञात करें?

Options :

1. ✓ 35:14:10
2. ✗ 14:7:2
3. ✗ 7:14:5
4. ✗ 5:14:9

Question Number : 102 Question Id : 99836718002 Question Type : MCQ Option Shuffling : Yes Display Question Number : Yes  
Single Line Question Option : No Option Orientation : Vertical

Correct Marks : 1 Wrong Marks : 0.25

A wall of size 10 ft. x 12 ft. requires 20 litres paint. How much paint will be required for a wall of size 8 ft. x 6 ft.?

Options :

1. ✗ 6 L
2. ✓ 8 L
3. ✗ 12 L
4. ✗ 15 L

Question Number : 102 Question Id : 99836718002 Question Type : MCQ Option Shuffling : Yes Display Question Number : Yes  
Single Line Question Option : No Option Orientation : Vertical

Correct Marks : 1 Wrong Marks : 0.25

10 फीट x 12 फीट आकार की दीवार के लिए 20 लीटर पेंट की आवश्यकता होती है 8 फीट x 6 फीट की दीवार के लिए कितने लीटर पेंट की आवश्यकता होगी?

Options :

1. ✗ 6 L
2. ✓ 8 L
3. ✗ 12 L
4. ✗ 15 L

Question Number : 103 Question Id : 99836718003 Question Type : MCQ Option Shuffling : Yes Display Question Number : Yes  
Single Line Question Option : No Option Orientation : Vertical

Correct Marks : 1 Wrong Marks : 0.25

Calculate the compound interest at 10 percent on a sum of Rs 2000 at the end of the 3rd year?

Options :

1. ✘ 260

2. ✘ 640

3. ✔ 662

4. ✘ 620

Question Number : 103 Question Id : 99836718003 Question Type : MCQ Option Shuffling : Yes Display Question Number : Yes  
Single Line Question Option : No Option Orientation : Vertical

Correct Marks : 1 Wrong Marks : 0.25

3 वर्ष के अंत में 2000 रुपए की राशि पर 10 प्रतिशत चक्रवृद्धि ब्याज की गणना करें?

Options :

1. ✘ 260 रुपए

2. ✘ 640 रुपए

3. ✔ 662 रुपए

4. ✘ 620 रुपए

Question Number : 104 Question Id : 99836718004 Question Type : MCQ Option Shuffling : Yes Display Question Number : Yes  
Single Line Question Option : No Option Orientation : Vertical

Correct Marks : 1 Wrong Marks : 0.25

P borrows Rs. 500 at 10 percent p.a. simple interest for 5 years. He repays Rs. 100 at the end of the 2nd year and the 4th year each, and the final amount at the end of the 5th year. What is the amount he paid at the end of the 5th year?

Options :

1. ✘ Rs. 550

2. ✔ Rs.510

3. ✘ Rs. 560

4. ✘ Rs. 520

Question Number : 104 Question Id : 99836718004 Question Type : MCQ Option Shuffling : Yes Display Question Number : Yes  
Single Line Question Option : No Option Orientation : Vertical

Correct Marks : 1 Wrong Marks : 0.25

P 500 रुपए 10 प्रतिशत प्रति वर्ष साधारण ब्याज पर 5 साल के लिए कर्ज लेता है। दूसरे और चौथे वर्ष के अंत में और प्रत्येक वर्ष 4 वर्ष के अंत में 100 रुपए चुका देता है और 5 वें वर्ष के अंत में पूरी राशि चुका देता है। पांचवें वर्ष के अंत में उसने कितनी राशि का भुगतान किया?

Options :

1. ✘ 550 रुपए

2. ✔ 510 रुपए

3. ✘ 560 रुपए

4. ✘ 520 रुपए

Question Number : 105 Question Id : 99836718005 Question Type : MCQ Option Shuffling : Yes Display Question Number : Yes  
Single Line Question Option : No Option Orientation : Vertical

Correct Marks : 1 Wrong Marks : 0.25

In the first year family A earned Rs. 1,20,000, its yearly income increased by 10 percent per year in the next two years, and in the second year, it earned an additional Rs. 20,000. What is the rate of increase of the family's income from 1st year to the 3rd year?

Options :



1. ✓ 37.67 percent
2. ✗ 35 percent
3. ✗ 32.33 percent
4. ✗ 39.66 percent

Question Number : 105 Question Id : 99836718005 Question Type : MCQ Option Shuffling : Yes Display Question Number : Yes Single Line Question Option : No Option Orientation : Vertical

Correct Marks : 1 Wrong Marks : 0.25

यदि परिवार A पहले वर्ष में 1,20,000 रुपए कमाता है और उसकी वार्षिक आय में अगले दो वर्षों में 10 प्रतिशत प्रति वर्ष की वृद्धि हुई तथा दूसरे वर्ष में इसने अतिरिक्त 20,000 रुपए कमाया। 1 वर्ष से तीसरे वर्ष तक उसकी आय वृद्धि की दर क्या है?

Options :

1. ✓ 37.67 प्रतिशत
2. ✗ 35 प्रतिशत
3. ✗ 32.33 प्रतिशत
4. ✗ 39.66 प्रतिशत

Question Number : 106 Question Id : 99836718006 Question Type : MCQ Option Shuffling : Yes Display Question Number : Yes Single Line Question Option : No Option Orientation : Vertical

Correct Marks : 1 Wrong Marks : 0.25

Two trains running in opposite directions cross each other in 10 seconds. The lengths of the trains are 125 m and 175 m respectively. The speed of one train is 36 km/h. Find the speed of the other train.

Options :

1. ✗ 36 km/h
2. ✗ 48 km/h
3. ✗ 60 km/h
4. ✓ 72 km/h

Question Number : 106 Question Id : 99836718006 Question Type : MCQ Option Shuffling : Yes Display Question Number : Yes Single Line Question Option : No Option Orientation : Vertical

Correct Marks : 1 Wrong Marks : 0.25

विपरीत दिशा में चलने वाली दो रेलगाड़ियां 10 सेकंड में एक दूसरे को पार करती हैं। रेलगाड़ियों की लंबाई क्रमशः 125 m और 175 m है। धीमी रेलगाड़ी की गति 36 km/h है। तेज रेलगाड़ी की गति ज्ञात करें?

Options :

1. ✗ 36 km/h
2. ✗ 48 km/h
3. ✗ 60 km/h
4. ✓ 72 km/h

Question Number : 107 Question Id : 99836718007 Question Type : MCQ Option Shuffling : Yes Display Question Number : Yes Single Line Question Option : No Option Orientation : Vertical

Correct Marks : 1 Wrong Marks : 0.25

A and B run at speeds of 2 km/h and 3 km/h respectively. They start running at the same time. What is the distance covered by A when B completes 4.5 km?

Options :

1. ✗ 1.5 km
2. ✗ 2 km
3. ✗ 2.5 km
4. ✓ 3 km

Question Number : 107 Question Id : 99836718007 Question Type : MCQ Option Shuffling : Yes Display Question Number : Yes  
Single Line Question Option : No Option Orientation : Vertical

Correct Marks : 1 Wrong Marks : 0.25

A और B क्रमशः 2 km/h और 3 km/h की गति से दौड़ते हैं वे एक ही समय से दौड़ना शुरू करते हैं, जब B 4.5 km पूरा करता है तो A द्वारा तय की गई दूरी कितनी है?

Options :

1. ✘ 1.5 km
2. ✘ 2 km
3. ✘ 2.5 km
4. ✔ 3 km

Question Number : 108 Question Id : 99836718008 Question Type : MCQ Option Shuffling : Yes Display Question Number : Yes  
Single Line Question Option : No Option Orientation : Vertical

Correct Marks : 1 Wrong Marks : 0.25

A and B are separated by 50 kms. A moves towards B at 30 km/h, B moves towards A at 45 km/h and they meet after certain time. How much distance has A covered when they meet?

Options :

1. ✘ 10 km
2. ✘ 15 km
3. ✔ 20 km
4. ✘ 25 km

Question Number : 108 Question Id : 99836718008 Question Type : MCQ Option Shuffling : Yes Display Question Number : Yes  
Single Line Question Option : No Option Orientation : Vertical

Correct Marks : 1 Wrong Marks : 0.25

A और B एक दूसरे से 50 km अलग हो जाते हैं 30 km/h पर A, B की ओर बढ़ता है, 45 km/h पर B, A की ओर बढ़ता है और वे निश्चित समय के बाद मिलते हैं, जब वे मिलते हैं तो A ने कितनी दूरी तय की है?

Options :

1. ✘ 10 km
2. ✘ 15 km
3. ✔ 20 km
4. ✘ 25 km

Question Number : 109 Question Id : 99836718009 Question Type : MCQ Option Shuffling : Yes Display Question Number : Yes  
Single Line Question Option : No Option Orientation : Vertical

Correct Marks : 1 Wrong Marks : 0.25

A team of researchers drilled ice in Antarctica at 10 metres per day, but the ice kept reforming. The if total depth drilled in 5 days was 40 metres, at what rate was the ice reforming?

Options :

1. ✔ 2 min
2. ✘ 4 min
3. ✘ 6 min
4. ✘ 8 min

Question Number : 109 Question Id : 99836718009 Question Type : MCQ Option Shuffling : Yes Display Question Number : Yes  
Single Line Question Option : No Option Orientation : Vertical

Correct Marks : 1 Wrong Marks : 0.25

शोधकर्ताओं की एक टीम ने अंटार्कटिका में प्रति दिन 10 मीटर की दूरी के बर्फ में ड्रिल की, लेकिन बर्फ का जमना जारी रहा। यदि 5 दिनों में ड्रिल की गई कुल गहराई 40 मीटर थी, तो बर्फ कितनी तेजी से जम रही थी?

Options :

- ✓ 2 min
- ✗ 4 min
- ✗ 6 min
- ✗ 8 min

Question Number : 110 Question Id : 99836718010 Question Type : MCQ Option Shuffling : Yes Display Question Number : Yes  
Single Line Question Option : No Option Orientation : Vertical

Correct Marks : 1 Wrong Marks : 0.25

Six men working for 15 days can build a road. The same work can be done by four men and four women in 15 days. How many women can complete the work in 15 days?

Options :

- ✗ 8
- ✗ 10
- ✓ 12
- ✗ 14

Question Number : 110 Question Id : 99836718010 Question Type : MCQ Option Shuffling : Yes Display Question Number : Yes  
Single Line Question Option : No Option Orientation : Vertical

Correct Marks : 1 Wrong Marks : 0.25

छह पुरुष 15 दिनों तक काम कर एक सड़क का निर्माण कर सकते हैं। वही काम चार पुरुष और चार महिलाएं 15 दिनों में कर सकती हैं। 15 दिनों में कितनी महिलाएं काम पूरा कर सकती हैं?

Options :

- ✗ 8
- ✗ 10
- ✓ 12
- ✗ 14

Question Number : 111 Question Id : 99836718011 Question Type : MCQ Option Shuffling : Yes Display Question Number : Yes  
Single Line Question Option : No Option Orientation : Vertical

Correct Marks : 1 Wrong Marks : 0.25

If it takes  $x$  hours to fill an entire swimming pool with the given tap and  $y$  hours to drain it completely with the given drain, how much time will it take to fill  $3/8$ th of the empty pool if both the tap and drain are open? (Assume  $x > y$ )

Options :

- ✗  $5(x-y)/8$
- ✗  $3x-5y$
- ✓  $3(y-x)/8xy$
- ✗  $3/8 \times (x/y)$

Question Number : 111 Question Id : 99836718011 Question Type : MCQ Option Shuffling : Yes Display Question Number : Yes  
Single Line Question Option : No Option Orientation : Vertical

Correct Marks : 1 Wrong Marks : 0.25

यदि दिए गए नल के साथ स्विमिंग पूल को भरने में  $x$  घंटे लगते हैं और दिए गए नाली के साथ इसे पूरी तरह से बाहर निकालने के लिए  $y$  घंटे लगते हैं, तो खाली पूल के  $3/8$  वें हिस्सा को भरने में कितना समय लगेगा यदि नल और नाली दोनों खुले हों? (मान लें  $x > y$ )

Options :

- ✗  $5(x-y)/8$
- ✗  $3x-5y$
- ✓  $3(y-x)/8xy$
- ✗  $3/8 \times (x/y)$

Question Number : 112 Question Id : 99836718012 Question Type : MCQ Option Shuffling : Yes Display Question Number : Yes  
Single Line Question Option : No Option Orientation : Vertical

Correct Marks : 1 Wrong Marks : 0.25

Find the total area of circles A and B if the radius of A = 3 cm and B = 4 cm?

Options :

- ✘ 9 sq cm
- ✘ 16 sq cm
- ✔ 78.57 sq cm
- ✘ 36 sq cm

Question Number : 112 Question Id : 99836718012 Question Type : MCQ Option Shuffling : Yes Display Question Number : Yes  
Single Line Question Option : No Option Orientation : Vertical

Correct Marks : 1 Wrong Marks : 0.25

यदि दो वृत्तों A = 3 cm और B = 4 cm की त्रिज्या है, तो A और B के कुल क्षेत्रफल को ज्ञात करें

Options :

- ✘ 9 sq cm
- ✘ 16 sq cm
- ✔ 78.57 sq cm
- ✘ 36 sq cm

Question Number : 113 Question Id : 99836718013 Question Type : MCQ Option Shuffling : Yes Display Question Number : Yes  
Single Line Question Option : No Option Orientation : Vertical

Correct Marks : 1 Wrong Marks : 0.25

Find the length of an arc of a circle with radius 70 cm and sector angle 36 degrees.

Options :

- ✘ 22 cm
- ✔ 44 cm
- ✘ 66 cm
- ✘ 88 cm

Question Number : 113 Question Id : 99836718013 Question Type : MCQ Option Shuffling : Yes Display Question Number : Yes  
Single Line Question Option : No Option Orientation : Vertical

Correct Marks : 1 Wrong Marks : 0.25

एक वृत्त जिसकी त्रिज्या 70 cm और सेक्टर कोण 36 डिग्री है। उस वृत्त के चाप की लंबाई को ज्ञात करें?

Options :

- ✘ 22 cm
- ✔ 44 cm
- ✘ 66 cm
- ✘ 88 cm

Question Number : 114 Question Id : 99836718014 Question Type : MCQ Option Shuffling : Yes Display Question Number : Yes  
Single Line Question Option : No Option Orientation : Vertical

Correct Marks : 1 Wrong Marks : 0.25

The side of a cube is 5 cm. Find the difference in the surface area of the full cube and the surface area of two sides of the cube.

Options :

- ✘ 150 sq cm
- ✘ 120 sq cm

3. ✓ 100 sq cm

4. ✗ 75 sq cm

Question Number : 114 Question Id : 99836718014 Question Type : MCQ Option Shuffling : Yes Display Question Number : Yes  
Single Line Question Option : No Option Orientation : Vertical

Correct Marks : 1 Wrong Marks : 0.25

एक घन का भाग 5 cm है घन के सतही क्षेत्रफल और घन के दो भागों के क्षेत्रफल का अंतर ज्ञात करें?

Options :

1. ✗ 150 sq cm

2. ✗ 120 sq cm

3. ✓ 100 sq cm

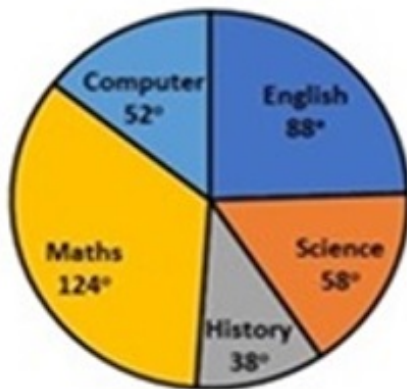
4. ✗ 75 sq cm

Question Number : 115 Question Id : 99836718015 Question Type : MCQ Option Shuffling : Yes Display Question Number : Yes  
Single Line Question Option : No Option Orientation : Vertical

Correct Marks : 1 Wrong Marks : 0.25

The following pie chart was made by a student to show the breakup of marks he scored in an exam. The pie chart shows the proportion of marks in the form of degrees of the central angle that each subject represents. His Math marks were greater than his English marks by -----.

### Breakup of marks scored in an exam



Options :

1. ✗ 30.20 percent

2. ✗ 35.70 percent

3. ✓ 40.90 percent

4. ✗ 50.30 percent

Question Number : 115 Question Id : 99836718015 Question Type : MCQ Option Shuffling : Yes Display Question Number : Yes  
Single Line Question Option : No Option Orientation : Vertical

Correct Marks : 1 Wrong Marks : 0.25

निम्नलिखित पाई चार्ट एक छात्र द्वारा एक परीक्षा में प्राप्त किए गए अंकों के स्कोर को दर्शाने के लिए बनाया गया है। पाई चार्ट केंद्रीय कोण के डिग्री के रूप में अंक का अनुपात दर्शाया है, जो प्रत्येक विषय को दर्शाता है। उसके गणित के अंक अंग्रेजी के अंक से \_\_\_\_\_ अधिक है।

## एक परीक्षा में अंको का विभाजन



Options :

1. ✘ 30.20 प्रतिशत
2. ✘ 35.70 प्रतिशत
3. ✔ 40.90 प्रतिशत
4. ✘ 50.30 प्रतिशत

Question Number : 116 Question Id : 99836718016 Question Type : MCQ Option Shuffling : Yes Display Question Number : Yes Single Line Question Option : No Option Orientation : Vertical

Correct Marks : 1 Wrong Marks : 0.25

The table shows GDP growth rate of 5 countries for 7 years. If the GDPs of Country S and T was \$100 bn and \$200 bn respectively at the end 2009. What was the difference in their GDPs at the end of 2010? (GDP = Gross Domestic Product)

Year	Country S	Country T	Country U	Country V	Country W
2005	25%	24%	10%	18%	23%
2006	18%	35%	8%	20%	19%
2007	24%	39%	11%	16%	10%
2008	29%	45%	7%	12%	7%
2009	27%	41%	9%	19%	4%
2010	15%	40%	12%	16%	17%
2011	12%	38%	16%	14%	20%

Options :

1. ✘ \$175 bn
2. ✘ \$195 bn
3. ✔ \$165 bn
4. ✘ \$155 bn

Question Number : 116 Question Id : 99836718016 Question Type : MCQ Option Shuffling : Yes Display Question Number : Yes Single Line Question Option : No Option Orientation : Vertical

Correct Marks : 1 Wrong Marks : 0.25

तालिका 7 वर्षों के लिए 5 देशों के GDP विकास अनुपात को दर्शाती है। यदि 2009 के अंत में देश S और T की GDP क्रमशः \$ 100 bn और \$ 200 bn थी। 2010 के अंत में उनके GDP में क्या अंतर था? (GDP = सकल घरेलू उत्पाद)

वर्ष	देश S	देश T	देश U	देश V	देश W
2005	25%	24%	10%	18%	23%
2006	18%	35%	8%	20%	19%
2007	24%	39%	11%	16%	10%
2008	29%	45%	7%	12%	7%
2009	27%	41%	9%	19%	4%
2010	15%	40%	12%	16%	17%
2011	12%	38%	16%	14%	20%

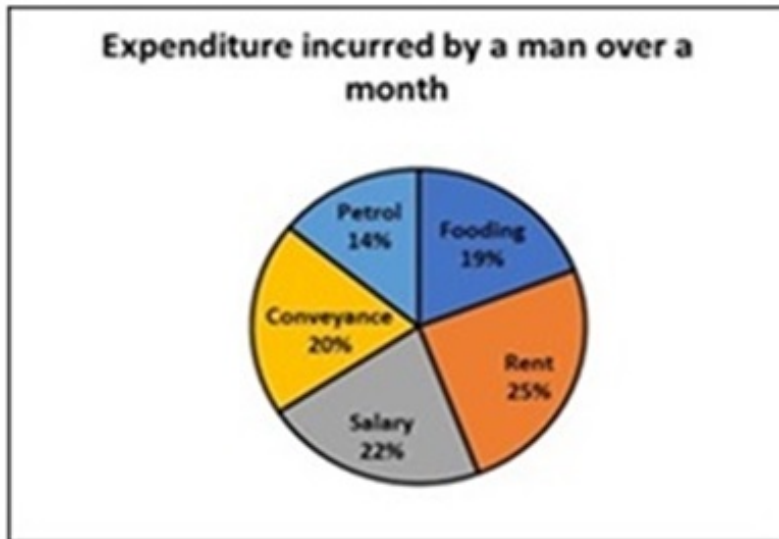
Options :

1. ✘ \$175 bn
2. ✘ \$195 bn
3. ✔ \$165 bn
4. ✘ \$155 bn

Question Number : 117 Question Id : 99836718017 Question Type : MCQ Option Shuffling : Yes Display Question Number : Yes Single Line Question Option : No Option Orientation : Vertical

Correct Marks : 1 Wrong Marks : 0.25

The following pie chart shows the expenditure incurred by a man over a month under various heads. What is the difference between the angle of the pie diagram showing expenditure on rent and expenditure on Conveyance?



Options :

1. ✘ 12 degrees
2. ✔ 18 degrees
3. ✘ 9 degrees
4. ✘ 16 degrees

Question Number : 117 Question Id : 99836718017 Question Type : MCQ Option Shuffling : Yes Display Question Number : Yes Single Line Question Option : No Option Orientation : Vertical

Correct Marks : 1 Wrong Marks : 0.25

निम्नलिखित पाई चार्ट में एक महीने में एक व्यक्ति द्वारा विभिन्न प्रमुखों के तहत किए गए खर्च को दर्शाया गया है। किराया और अन्य खरीदी पर व्यय को दर्शाने वाले पाई आरेख के कोण के बीच कितने का अंतर है?

### एक महीने में एक आदमी द्वारा किया गया व्यय



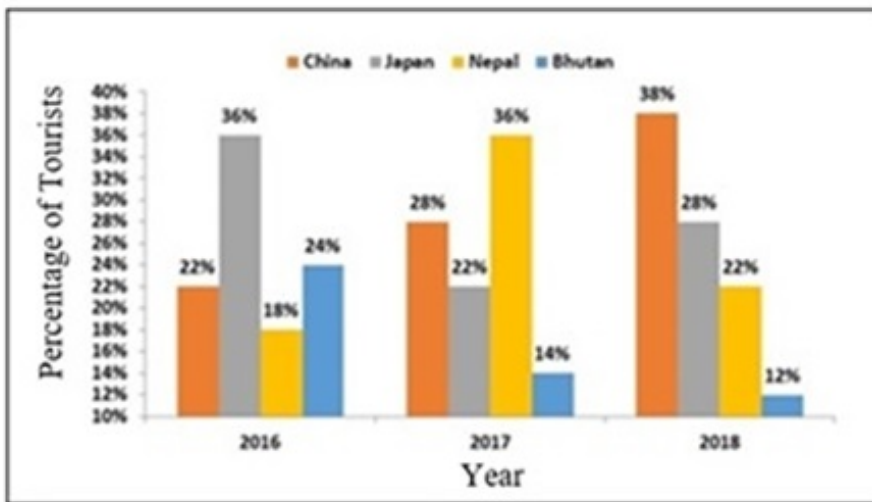
Options :

1. ✘ 12 डिग्री
2. ✔ 18 डिग्री
3. ✘ 9 डिग्री
4. ✘ 16 डिग्री

Question Number : 118 Question Id : 99836718018 Question Type : MCQ Option Shuffling : Yes Display Question Number : Yes Single Line Question Option : No Option Orientation : Vertical

Correct Marks : 1 Wrong Marks : 0.25

The bar graph represents the percentage breakup of tourists who spent their holidays in China, Japan, Nepal or Bhutan during Christmas in the year 2016, 2017 and 2018. The total number of tourists in these four countries in the year 2016 was 18000, and the total number of tourists in these 4 countries grew by 10 percent per year. What is the difference between the number of tourists visiting Japan in 2018 and number of tourists visiting China in 2017? (Round off to the next whole number.)



Options :

1. ✔ 555
2. ✘ 550
3. ✘ 552
4. ✘ 586

Question Number : 118 Question Id : 99836718018 Question Type : MCQ Option Shuffling : Yes Display Question Number : Yes Single Line Question Option : No Option Orientation : Vertical



Correct Marks : 1 Wrong Marks : 0.25

बार ग्राफ वर्ष 2016, 2017 और 2018 में क्रिसमस के दौरान चीन, जापान, नेपाल या भूटान में छुट्टियां बिताने वाले पर्यटकों का प्रतिशत वितरण को दर्शाता है। वर्ष 2016 में इन चार देशों में पर्यटकों की कुल संख्या 18000 थी, और पर्यटकों की कुल संख्या में हर साल 10 प्रतिशत की वृद्धि हुई। 2018 में जापान जाने वाले पर्यटकों की संख्या और 2017 में चीन जाने वाले पर्यटकों की संख्या में कितना अंतर है? (अगली पूरी संख्या में पूर्णांक करो)



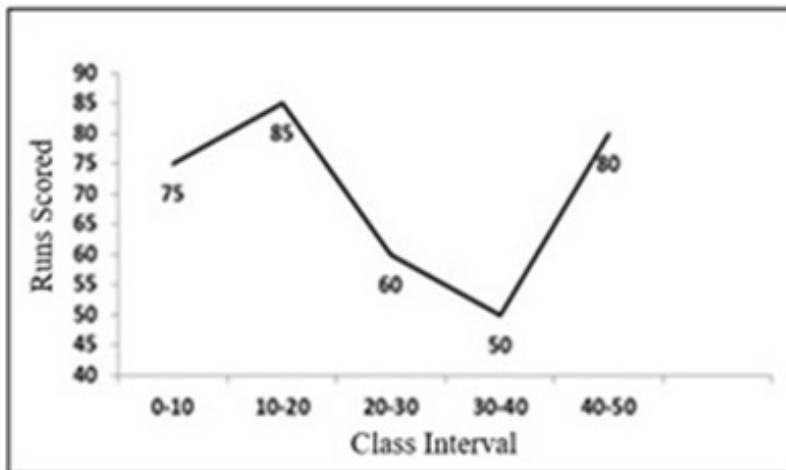
Options :

- ✓ 555
- ✗ 550
- ✗ 552
- ✗ 586

Question Number : 119 Question Id : 99836718019 Question Type : MCQ Option Shuffling : Yes Display Question Number : Yes Single Line Question Option : No Option Orientation : Vertical

Correct Marks : 1 Wrong Marks : 0.25

The following frequency polygon shows the average runs scored by 50 batsmen in a world cup series. What is the cumulative frequency for the class interval 30-40?



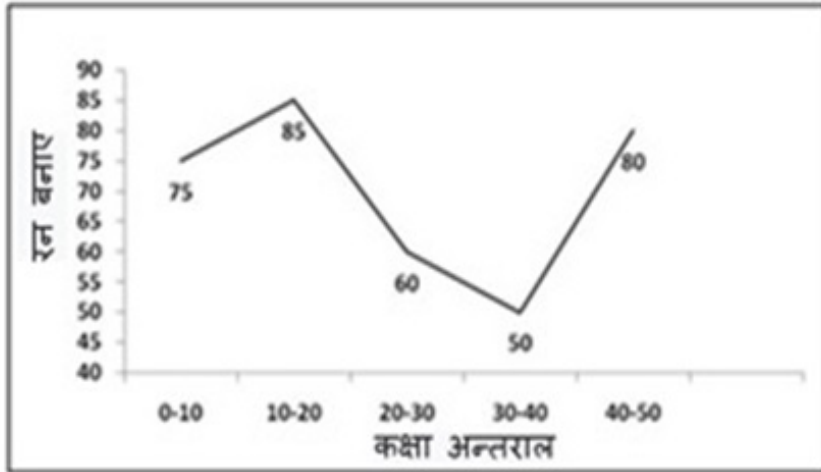
Options :

- ✗ 220
- ✗ 250
- ✗ 280
- ✓ 270

Question Number : 119 Question Id : 99836718019 Question Type : MCQ Option Shuffling : Yes Display Question Number : Yes Single Line Question Option : No Option Orientation : Vertical

Correct Marks : 1 Wrong Marks : 0.25

निम्न आवृत्ति बहुभुज एक विश्व कप श्रृंखला में 50 बल्लेबाजों द्वारा बनाए गए औसत रन को दर्शाता है। 30-40 के कक्षा अंतराल के लिए संचयी आवृत्ति क्या है?



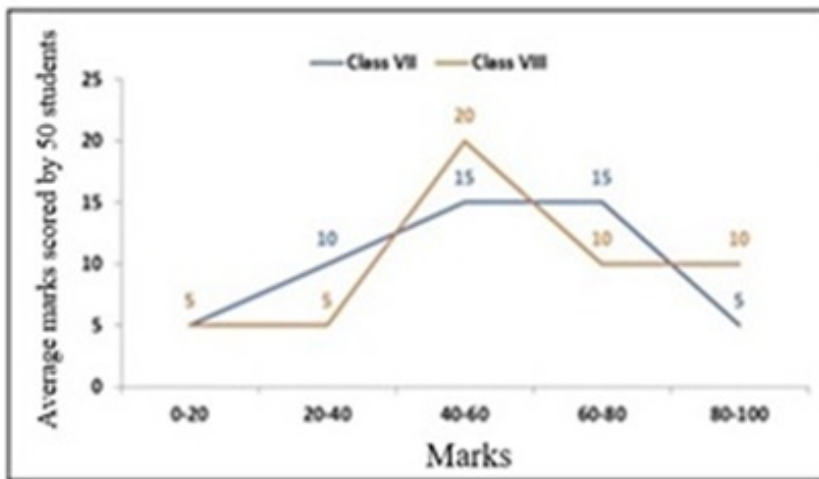
Options :

- ✘ 220
- ✘ 250
- ✘ 280
- ✔ 270

Question Number : 120 Question Id : 99836718020 Question Type : MCQ Option Shuffling : Yes Display Question Number : Yes Single Line Question Option : No Option Orientation : Vertical

Correct Marks : 1 Wrong Marks : 0.25

The following frequency polygon shows the average marks out of 100 scored by 50 students each of class VII and VIII. The number of students who scored more than 40 of Class VII is more than the number of students who scored less than 60 of Class VIII by \_\_\_\_\_.



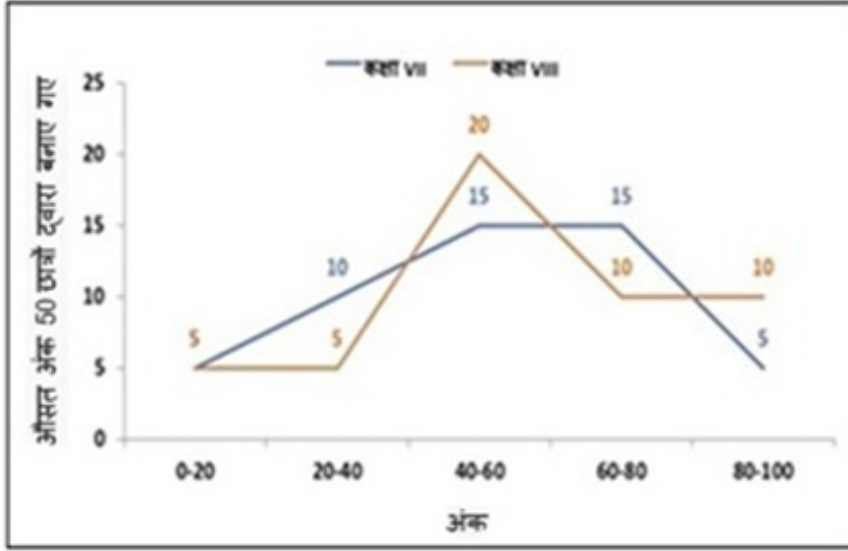
Options :

- ✘ 25 percent
- ✔ 16.67 percent
- ✘ 13.33 percent
- ✘ 30 percent

Question Number : 120 Question Id : 99836718020 Question Type : MCQ Option Shuffling : Yes Display Question Number : Yes Single Line Question Option : No Option Orientation : Vertical

Correct Marks : 1 Wrong Marks : 0.25

निम्न आवृत्ति बहुभुज कक्षा VII और VIII के प्रत्येक 50 छात्रों द्वारा पास किए गए 100 में से औसत अंक को दर्शाता है। कक्षा VII के 40 से अधिक अंक प्राप्त करने वाले छात्रों की संख्या कक्षा VIII के 60 से कम अंक प्राप्त करने वाले छात्रों की संख्या से \_\_\_\_\_ अधिक है।



Options :

1. ✘ 25 प्रतिशत
2. ✔ 16.67 प्रतिशत
3. ✘ 13.33 प्रतिशत
4. ✘ 30 प्रतिशत

#### General English1

Group Number :	7
Group Id :	998367636
Group Maximum Duration :	0
Group Minimum Duration :	0
Revisit allowed for view? :	No
Revisit allowed for edit? :	No
Break time:	0
Group Marks:	20
Revisit allowed for group Instructions? :	Yes
Maximum Instruction Time:	0
Minimum Instruction Time:	0

#### General English1

Section Id :	998367757
Section Number :	1
Section type :	Online
Mandatory or Optional:	Mandatory
Number of Questions:	20
Number of Questions to be attempted:	20
Section Marks:	20
Display Number Panel:	Yes
Group All Questions:	No

**Sub-Section Number:** 1  
**Sub-Section Id:** 998367965  
**Question Shuffling Allowed :** Yes

**Question Number : 121 Question Id : 99836718021 Question Type : MCQ Option Shuffling : Yes Display Question Number : Yes**  
**Single Line Question Option : No Option Orientation : Vertical**

**Correct Marks : 1 Wrong Marks : 0.25**

The sentence below has been divided into three parts. Select the part of the sentence that has an error. If the sentence has no error, select the option 'No Error'.

The Governor revoked / his decision to suspend / the corrupt and erring officials.

**Options :**

1. ✘ The Governor revoked
2. ✘ his decision to suspend
3. ✘ the corrupt and erring officials
4. ✔ No Error

**Question Number : 121 Question Id : 99836718021 Question Type : MCQ Option Shuffling : Yes Display Question Number : Yes**  
**Single Line Question Option : No Option Orientation : Vertical**

**Correct Marks : 1 Wrong Marks : 0.25**

The sentence below has been divided into three parts. Select the part of the sentence that has an error. If the sentence has no error, select the option 'No Error'.

The Governor revoked / his decision to suspend / the corrupt and erring officials.

**Options :**

1. ✘ The Governor revoked
2. ✘ his decision to suspend
3. ✘ the corrupt and erring officials
4. ✔ No Error

**Question Number : 122 Question Id : 99836718022 Question Type : MCQ Option Shuffling : Yes Display Question Number : Yes**  
**Single Line Question Option : No Option Orientation : Vertical**

**Correct Marks : 1 Wrong Marks : 0.25**

The sentence below has been divided into three parts. Select the part of the sentence that has an error. If the sentence has no error, select the option 'No Error'.

Narayan had invited to his / in-laws for dinner / last Sunday.

**Options :**

1. ✔ Narayan had invited to his
2. ✘ in-laws for dinner
3. ✘ last Sunday.
4. ✘ No Error

**Question Number : 122 Question Id : 99836718022 Question Type : MCQ Option Shuffling : Yes Display Question Number : Yes**  
**Single Line Question Option : No Option Orientation : Vertical**

**Correct Marks : 1 Wrong Marks : 0.25**

The sentence below has been divided into three parts. Select the part of the sentence that has an error. If the sentence has no error, select the option 'No Error'.

Narayan had invited to his / in-laws for dinner / last Sunday.

**Options :**

1. ✔ Narayan had invited to his

2. ✘ in-laws for dinner
3. ✘ last Sunday.
4. ✘ No Error

Question Number : 123 Question Id : 99836718023 Question Type : MCQ Option Shuffling : Yes Display Question Number : Yes  
Single Line Question Option : No Option Orientation : Vertical

Correct Marks : 1 Wrong Marks : 0.25

The sentence below has been divided into three parts. Select the part of the sentence that has an error. If the sentence has no error, select the option 'No Error'.

Mani peeled some potatoes / and cut them / within small small pieces.

Options :

1. ✘ Mani peeled some potatoes
2. ✘ and cut them
3. ✔ within small small pieces.
4. ✘ No Error

Question Number : 123 Question Id : 99836718023 Question Type : MCQ Option Shuffling : Yes Display Question Number : Yes  
Single Line Question Option : No Option Orientation : Vertical

Correct Marks : 1 Wrong Marks : 0.25

The sentence below has been divided into three parts. Select the part of the sentence that has an error. If the sentence has no error, select the option 'No Error'.

Mani peeled some potatoes / and cut them / within small small pieces.

Options :

1. ✘ Mani peeled some potatoes
2. ✘ and cut them
3. ✔ within small small pieces.
4. ✘ No Error

Question Number : 124 Question Id : 99836718024 Question Type : MCQ Option Shuffling : Yes Display Question Number : Yes  
Single Line Question Option : No Option Orientation : Vertical

Correct Marks : 1 Wrong Marks : 0.25

The sentence below has been divided into three parts. Select the part of the sentence that has an error. If the sentence has no error, select the option 'No Error'.

Divya is only student / who has won / the prestigious award twice.

Options :

1. ✔ Divya is only student
2. ✘ who has won
3. ✘ the prestigious award twice.
4. ✘ No Error

Question Number : 124 Question Id : 99836718024 Question Type : MCQ Option Shuffling : Yes Display Question Number : Yes  
Single Line Question Option : No Option Orientation : Vertical

Correct Marks : 1 Wrong Marks : 0.25

The sentence below has been divided into three parts. Select the part of the sentence that has an error. If the sentence has no error, select the option 'No Error'.

Divya is only student / who has won / the prestigious award twice.

Options :

1. ✓ Divya is only student
2. ✗ who has won
3. ✗ the prestigious award twice.
4. ✗ No Error

Question Number : 125 Question Id : 99836718025 Question Type : MCQ Option Shuffling : Yes Display Question Number : Yes  
Single Line Question Option : No Option Orientation : Vertical

Correct Marks : 1 Wrong Marks : 0.25

The sentence below has been divided into three parts. Select the part of the sentence that has an error. If the sentence has no error, select the option 'No Error'.

Balaji called all his friends / and told them meet me / in the school as soon as possible.

Options :

1. ✗ Balaji called all his friends
2. ✓ and told them meet me
3. ✗ in the school as soon as possible.
4. ✗ No Error

Question Number : 125 Question Id : 99836718025 Question Type : MCQ Option Shuffling : Yes Display Question Number : Yes  
Single Line Question Option : No Option Orientation : Vertical

Correct Marks : 1 Wrong Marks : 0.25

The sentence below has been divided into three parts. Select the part of the sentence that has an error. If the sentence has no error, select the option 'No Error'.

Balaji called all his friends / and told them meet me / in the school as soon as possible.

Options :

1. ✗ Balaji called all his friends
2. ✓ and told them meet me
3. ✗ in the school as soon as possible.
4. ✗ No Error

Question Number : 126 Question Id : 99836718026 Question Type : MCQ Option Shuffling : Yes Display Question Number : Yes  
Single Line Question Option : No Option Orientation : Vertical

Correct Marks : 1 Wrong Marks : 0.25

Select the word segment that substitutes (replaces) the bracketed word segment correctly and completes the sentence meaningfully. Select the option 'no correction required' if the sentence is correct as given.

Padma is the most beautiful girl (I ever seen).

Options :

1. ✓ I have ever seen
2. ✗ I have ever saw
3. ✗ I had ever saw
4. ✗ No correction required

Question Number : 126 Question Id : 99836718026 Question Type : MCQ Option Shuffling : Yes Display Question Number : Yes  
Single Line Question Option : No Option Orientation : Vertical

Correct Marks : 1 Wrong Marks : 0.25

Select the word segment that substitutes (replaces) the bracketed word segment correctly and completes the sentence meaningfully. Select the option 'no correction required' if the sentence is correct as given.

Padma is the most beautiful girl (I ever seen).

Options :

1. ✓ I have ever seen
2. ✗ I have ever saw
3. ✗ I had ever saw
4. ✗ No correction required

Question Number : 127 Question Id : 99836718027 Question Type : MCQ Option Shuffling : Yes Display Question Number : Yes  
Single Line Question Option : No Option Orientation : Vertical

Correct Marks : 1 Wrong Marks : 0.25

Select the word segment that substitutes (replaces) the bracketed word segment correctly and completes the sentence meaningfully. Select the option 'no correction required' if the sentence is correct as given.

Gopal had gone out (when I called up to him last night).

Options :

1. ✗ when I call up to him last night
2. ✗ when I call him up last night
3. ✓ when I called him up last night
4. ✗ when I called to him last night

Question Number : 127 Question Id : 99836718027 Question Type : MCQ Option Shuffling : Yes Display Question Number : Yes  
Single Line Question Option : No Option Orientation : Vertical

Correct Marks : 1 Wrong Marks : 0.25

Select the word segment that substitutes (replaces) the bracketed word segment correctly and completes the sentence meaningfully. Select the option 'no correction required' if the sentence is correct as given.

Gopal had gone out (when I called up to him last night).

Options :

1. ✗ when I call up to him last night
2. ✗ when I call him up last night
3. ✓ when I called him up last night
4. ✗ when I called to him last night

Question Number : 128 Question Id : 99836718028 Question Type : MCQ Option Shuffling : Yes Display Question Number : Yes  
Single Line Question Option : No Option Orientation : Vertical

Correct Marks : 1 Wrong Marks : 0.25

Select the word segment that substitutes (replaces) the bracketed word segment correctly and completes the sentence meaningfully. Select the option 'no correction required' if the sentence is correct as given.

(Since Payal was not well), we decided to postpone our road trip.

Options :

1. ✗ Hence Payal was not well
2. ✗ Nevertheless Payal was not well
3. ✗ Yet Payal was not well
4. ✓ No correction required

Question Number : 128 Question Id : 99836718028 Question Type : MCQ Option Shuffling : Yes Display Question Number : Yes  
Single Line Question Option : No Option Orientation : Vertical

Correct Marks : 1 Wrong Marks : 0.25

Select the word segment that substitutes (replaces) the bracketed word segment correctly and completes the sentence meaningfully. Select the option 'no correction required' if the sentence is correct as given.

(Since Payal was not well), we decided to postpone our road trip.

Options :

- ✘ Hence Payal was not well
- ✘ Nevertheless Payal was not well
- ✘ Yet Payal was not well
- ✔ No correction required

Question Number : 129 Question Id : 99836718029 Question Type : MCQ Option Shuffling : Yes Display Question Number : Yes Single Line Question Option : No Option Orientation : Vertical

Correct Marks : 1 Wrong Marks : 0.25

Select the word segment that substitutes (replaces) the bracketed word segment correctly and completes the sentence meaningfully. Select the option 'no correction required' if the sentence is correct as given.

Pratibha has left for the day (as she will not feeling well).

Options :

- ✔ as she was not feeling well
- ✘ as she is not felt well
- ✘ as she was not feel well
- ✘ No correction required

Question Number : 129 Question Id : 99836718029 Question Type : MCQ Option Shuffling : Yes Display Question Number : Yes Single Line Question Option : No Option Orientation : Vertical

Correct Marks : 1 Wrong Marks : 0.25

Select the word segment that substitutes (replaces) the bracketed word segment correctly and completes the sentence meaningfully. Select the option 'no correction required' if the sentence is correct as given.

Pratibha has left for the day (as she will not feeling well).

Options :

- ✔ as she was not feeling well
- ✘ as she is not felt well
- ✘ as she was not feel well
- ✘ No correction required

Question Number : 130 Question Id : 99836718030 Question Type : MCQ Option Shuffling : Yes Display Question Number : Yes Single Line Question Option : No Option Orientation : Vertical

Correct Marks : 1 Wrong Marks : 0.25

Select the word segment that substitutes (replaces) the bracketed word segment correctly and completes the sentence meaningfully. Select the option 'no correction required' if the sentence is correct as given.

I have always known him as (a loyal British citizen living in the United States).

Options :

- ✘ a loyal British citizen lived in the United States
- ✘ a loyal British citizen lives in the United States
- ✘ loyal British citizen living in the United States
- ✔ No correction required

Question Number : 130 Question Id : 99836718030 Question Type : MCQ Option Shuffling : Yes Display Question Number : Yes Single Line Question Option : No Option Orientation : Vertical



**Correct Marks : 1 Wrong Marks : 0.25**

Select the word segment that substitutes (replaces) the bracketed word segment correctly and completes the sentence meaningfully. Select the option 'no correction required' if the sentence is correct as given.

I have always known him as (a loyal British citizen living in the United States).

**Options :**

- ✘ a loyal British citizen lived in the United States
- ✘ a loyal British citizen lives in the United States
- ✘ loyal British citizen living in the United States
- ✔ No correction required

**Question Number : 131 Question Id : 99836718031 Question Type : MCQ Option Shuffling : Yes Display Question Number : Yes Single Line Question Option : No Option Orientation : Vertical**

**Correct Marks : 1 Wrong Marks : 0.25**

Select the most appropriate word that fills in the blank correctly and completes the sentence meaningfully.

Following a huge number of complaints, the officials \_\_\_\_\_ the bowler's actions carefully.

**Options :**

- ✘ saw
- ✘ peeped at
- ✘ glanced at
- ✔ examined

**Question Number : 131 Question Id : 99836718031 Question Type : MCQ Option Shuffling : Yes Display Question Number : Yes Single Line Question Option : No Option Orientation : Vertical**

**Correct Marks : 1 Wrong Marks : 0.25**

Select the most appropriate word that fills in the blank correctly and completes the sentence meaningfully.

Following a huge number of complaints, the officials \_\_\_\_\_ the bowler's actions carefully.

**Options :**

- ✘ saw
- ✘ peeped at
- ✘ glanced at
- ✔ examined

**Question Number : 132 Question Id : 99836718032 Question Type : MCQ Option Shuffling : Yes Display Question Number : Yes Single Line Question Option : No Option Orientation : Vertical**

**Correct Marks : 1 Wrong Marks : 0.25**

Select the most appropriate word that fills in the blank correctly and completes the sentence meaningfully.

The elephant \_\_\_\_\_ a huge tree and threw it at the crowd of villagers.

**Options :**

- ✘ falled
- ✔ uprooted
- ✘ felled
- ✘ fallen

**Question Number : 132 Question Id : 99836718032 Question Type : MCQ Option Shuffling : Yes Display Question Number : Yes Single Line Question Option : No Option Orientation : Vertical**

**Correct Marks : 1 Wrong Marks : 0.25**

Select the most appropriate word that fills in the blank correctly and completes the sentence meaningfully.

The elephant \_\_\_\_\_ a huge tree and threw it at the crowd of villagers.

Options :

1. ✘ falled
2. ✔ uprooted
3. ✘ felled
4. ✘ fallen

Question Number : 133 Question Id : 99836718033 Question Type : MCQ Option Shuffling : Yes Display Question Number : Yes  
Single Line Question Option : No Option Orientation : Vertical

Correct Marks : 1 Wrong Marks : 0.25

Select the most appropriate word that fills in the blank correctly and completes the sentence meaningfully.

The teacher \_\_\_\_\_ his students to keep quiet.

Options :

1. ✘ asked to
2. ✘ told to
3. ✔ asked
4. ✘ said

Question Number : 133 Question Id : 99836718033 Question Type : MCQ Option Shuffling : Yes Display Question Number : Yes  
Single Line Question Option : No Option Orientation : Vertical

Correct Marks : 1 Wrong Marks : 0.25

Select the most appropriate word that fills in the blank correctly and completes the sentence meaningfully.

The teacher \_\_\_\_\_ his students to keep quiet.

Options :

1. ✘ asked to
2. ✘ told to
3. ✔ asked
4. ✘ said

Question Number : 134 Question Id : 99836718034 Question Type : MCQ Option Shuffling : Yes Display Question Number : Yes  
Single Line Question Option : No Option Orientation : Vertical

Correct Marks : 1 Wrong Marks : 0.25

Select the most appropriate word that fills in the blank correctly and completes the sentence meaningfully.

Adil went to his native village to \_\_\_\_ his vote.

Options :

1. ✘ caste
2. ✔ cast
3. ✘ casting
4. ✘ giving

Question Number : 134 Question Id : 99836718034 Question Type : MCQ Option Shuffling : Yes Display Question Number : Yes  
Single Line Question Option : No Option Orientation : Vertical

Correct Marks : 1 Wrong Marks : 0.25

Select the most appropriate word that fills in the blank correctly and completes the sentence meaningfully.

Adil went to his native village to \_\_\_\_ his vote.

Options :

1. ✘ caste
2. ✔ cast
3. ✘ casting
4. ✘ giving

Question Number : 135 Question Id : 99836718035 Question Type : MCQ Option Shuffling : Yes Display Question Number : Yes  
Single Line Question Option : No Option Orientation : Vertical

Correct Marks : 1 Wrong Marks : 0.25

Select the most appropriate word that fills in the blank correctly and completes the sentence meaningfully.

Pramod is an \_\_\_\_\_ man who likes to use a bicycle instead of a car.

Options :

1. ✘ axiomatic
2. ✘ erroneous
3. ✔ old-fashioned
4. ✘ ostentatious

Question Number : 135 Question Id : 99836718035 Question Type : MCQ Option Shuffling : Yes Display Question Number : Yes  
Single Line Question Option : No Option Orientation : Vertical

Correct Marks : 1 Wrong Marks : 0.25

Select the most appropriate word that fills in the blank correctly and completes the sentence meaningfully.

Pramod is an \_\_\_\_\_ man who likes to use a bicycle instead of a car.

Options :

1. ✘ axiomatic
2. ✘ erroneous
3. ✔ old-fashioned
4. ✘ ostentatious

Question Number : 136 Question Id : 99836718036 Question Type : MCQ Option Shuffling : Yes Display Question Number : Yes  
Single Line Question Option : No Option Orientation : Vertical

Correct Marks : 1 Wrong Marks : 0.25

Select the most appropriate word that fills in the blank correctly and completes the sentence meaningfully.

Since the bride was not keeping well, the wedding was \_\_\_\_\_.

Options :

1. ✔ postponed
2. ✘ called
3. ✘ briefed
4. ✘ posted

Question Number : 136 Question Id : 99836718036 Question Type : MCQ Option Shuffling : Yes Display Question Number : Yes  
Single Line Question Option : No Option Orientation : Vertical

Correct Marks : 1 Wrong Marks : 0.25

Select the most appropriate word that fills in the blank correctly and completes the sentence meaningfully.

Since the bride was not keeping well, the wedding was \_\_\_\_\_.

Options :

1. ✔ postponed

2. ✘ called
3. ✘ briefed
4. ✘ posted

Question Number : 137 Question Id : 99836718037 Question Type : MCQ Option Shuffling : Yes Display Question Number : Yes  
Single Line Question Option : No Option Orientation : Vertical

Correct Marks : 1 Wrong Marks : 0.25

Select the most appropriate word that fills in the blank correctly and completes the sentence meaningfully.

Garima was\_\_\_\_\_ to see her father after 3 years.

Options :

1. ✘ nauseated
2. ✔ elated
3. ✘ belated
4. ✘ cheered

Question Number : 137 Question Id : 99836718037 Question Type : MCQ Option Shuffling : Yes Display Question Number : Yes  
Single Line Question Option : No Option Orientation : Vertical

Correct Marks : 1 Wrong Marks : 0.25

Select the most appropriate word that fills in the blank correctly and completes the sentence meaningfully.

Garima was\_\_\_\_\_ to see her father after 3 years.

Options :

1. ✘ nauseated
2. ✔ elated
3. ✘ belated
4. ✘ cheered

Question Number : 138 Question Id : 99836718038 Question Type : MCQ Option Shuffling : Yes Display Question Number : Yes  
Single Line Question Option : No Option Orientation : Vertical

Correct Marks : 1 Wrong Marks : 0.25

Select the most appropriate word that fills in the blank correctly and completes the sentence meaningfully.

The refugees often talk about their homeland \_\_\_\_\_.

Options :

1. ✔ nostalgically
2. ✘ irritatingly
3. ✘ belatedly
4. ✘ knowingly

Question Number : 138 Question Id : 99836718038 Question Type : MCQ Option Shuffling : Yes Display Question Number : Yes  
Single Line Question Option : No Option Orientation : Vertical

Correct Marks : 1 Wrong Marks : 0.25

Select the most appropriate word that fills in the blank correctly and completes the sentence meaningfully.

The refugees often talk about their homeland \_\_\_\_\_.

Options :

1. ✔ nostalgically
2. ✘ irritatingly
3. ✘ belatedly

4. ✘ knowingly

**Question Number : 139 Question Id : 99836718039 Question Type : MCQ Option Shuffling : Yes Display Question Number : Yes Single Line Question Option : No Option Orientation : Vertical**

**Correct Marks : 1 Wrong Marks : 0.25**

Some parts of a sentence have been jumbled up, and labeled P, Q, R and S. Select the option that gives the correct sequence in which these parts can be rearranged to form a meaningful and grammatically correct sentence.

P: bags and ran towards the

Q: the children picked their

R: school playground

S: after the bell rang

**Options :**

1. ✘ QSPR

2. ✘ PSQR

3. ✔ QPRS

4. ✘ SQRP

**Question Number : 139 Question Id : 99836718039 Question Type : MCQ Option Shuffling : Yes Display Question Number : Yes Single Line Question Option : No Option Orientation : Vertical**

**Correct Marks : 1 Wrong Marks : 0.25**

Some parts of a sentence have been jumbled up, and labeled P, Q, R and S. Select the option that gives the correct sequence in which these parts can be rearranged to form a meaningful and grammatically correct sentence.

P: bags and ran towards the

Q: the children picked their

R: school playground

S: after the bell rang

**Options :**

1. ✘ QSPR

2. ✘ PSQR

3. ✔ QPRS

4. ✘ SQRP

**Question Number : 140 Question Id : 99836718040 Question Type : MCQ Option Shuffling : Yes Display Question Number : Yes Single Line Question Option : No Option Orientation : Vertical**

**Correct Marks : 1 Wrong Marks : 0.25**

Some parts of a sentence have been jumbled up, and labeled P, Q, R and S. Select the option that gives the correct sequence in which these parts can be rearranged to form a meaningful and grammatically correct sentence.

P: in the town

Q: with her mother

R: and three brothers

S: Maya lives

**Options :**

1. ✘ PRQS

2. ✘ QRSP

3. ✔ SPQR

4. ✘ RSQP

Question Number : 140 Question Id : 99836718040 Question Type : MCQ Option Shuffling : Yes Display Question Number : Yes  
Single Line Question Option : No Option Orientation : Vertical

Correct Marks : 1 Wrong Marks : 0.25

Some parts of a sentence have been jumbled up, and labeled P, Q, R and S. Select the option that gives the correct sequence in which these parts can be rearranged to form a meaningful and grammatically correct sentence.

P: in the town  
Q: with her mother  
R: and three brothers  
S: Maya lives

Options :

1. ✘ PRQS
2. ✘ QRSP
3. ✔ SPQR
4. ✘ RSQP

#### General English2

Group Number :	8
Group Id :	998367637
Group Maximum Duration :	0
Group Minimum Duration :	0
Revisit allowed for view? :	No
Revisit allowed for edit? :	No
Break time:	0
Group Marks:	20
Revisit allowed for group Instructions? :	Yes
Maximum Instruction Time:	0
Minimum Instruction Time:	0

#### General English2

Section Id :	998367758
Section Number :	1
Section type :	Online
Mandatory or Optional:	Mandatory
Number of Questions:	16
Number of Questions to be attempted:	16
Section Marks:	20
Display Number Panel:	Yes
Group All Questions:	No

Sub-Section Number:	1
Sub-Section Id:	998367966
Question Shuffling Allowed :	Yes

Question Number : 141 Question Id : 99836718041 Question Type : MCQ Option Shuffling : Yes Display Question Number : Yes  
Single Line Question Option : No Option Orientation : Vertical

Correct Marks : 1 Wrong Marks : 0.25

The sentences of a paragraph have been jumbled up, and labeled P, Q, R and S. Select the option that gives the correct sequence in which these sentences should be rearranged to form a meaningful paragraph.

- P: Soon, he bought a second-hand taxi.  
Q: There, he took up a job as a driver.  
R: Farukh lived in a tribal hamlet as a child.  
S: He migrated to Mumbai when he was eighteen.

Options :

1. ✘ RQPS
2. ✔ RSQP
3. ✘ SRPQ
4. ✘ PQSR

Question Number : 141 Question Id : 99836718041 Question Type : MCQ Option Shuffling : Yes Display Question Number : Yes  
Single Line Question Option : No Option Orientation : Vertical

Correct Marks : 1 Wrong Marks : 0.25

The sentences of a paragraph have been jumbled up, and labeled P, Q, R and S. Select the option that gives the correct sequence in which these sentences should be rearranged to form a meaningful paragraph.

- P: Soon, he bought a second-hand taxi.  
Q: There, he took up a job as a driver.  
R: Farukh lived in a tribal hamlet as a child.  
S: He migrated to Mumbai when he was eighteen.

Options :

1. ✘ RQPS
2. ✔ RSQP
3. ✘ SRPQ
4. ✘ PQSR

Question Number : 142 Question Id : 99836718042 Question Type : MCQ Option Shuffling : Yes Display Question Number : Yes  
Single Line Question Option : No Option Orientation : Vertical

Correct Marks : 1 Wrong Marks : 0.25

Select the word that is closest in meaning SYNONYM to the word given below.

NULLIFY

Options :

1. ✘ Berate
2. ✘ Mollify
3. ✔ Negate
4. ✘ Comprehend

Question Number : 142 Question Id : 99836718042 Question Type : MCQ Option Shuffling : Yes Display Question Number : Yes  
Single Line Question Option : No Option Orientation : Vertical

Correct Marks : 1 Wrong Marks : 0.25

Select the word that is closest in meaning SYNONYM to the word given below.

NULLIFY

Options :

1. ✘ Berate
2. ✘ Mollify
3. ✔ Negate

4. ✘ Comprehend

Question Number : 143 Question Id : 99836718043 Question Type : MCQ Option Shuffling : Yes Display Question Number : Yes  
Single Line Question Option : No Option Orientation : Vertical

Correct Marks : 1 Wrong Marks : 0.25

Select the word that is opposite in meaning ANTONYM to the word given below.

HUMONGOUS

Options :

1. ✘ Humid
2. ✘ Bulky
3. ✘ Wet
4. ✔ Tiny

Question Number : 143 Question Id : 99836718043 Question Type : MCQ Option Shuffling : Yes Display Question Number : Yes  
Single Line Question Option : No Option Orientation : Vertical

Correct Marks : 1 Wrong Marks : 0.25

Select the word that is opposite in meaning ANTONYM to the word given below.

HUMONGOUS

Options :

1. ✘ Humid
2. ✘ Bulky
3. ✘ Wet
4. ✔ Tiny

Question Number : 144 Question Id : 99836718044 Question Type : MCQ Option Shuffling : Yes Display Question Number : Yes  
Single Line Question Option : No Option Orientation : Vertical

Correct Marks : 1 Wrong Marks : 0.25

Select the word that is closest in meaning SYNONYM to the word given below.

LUSCIOUS

Options :

1. ✘ Deserted
2. ✘ Morbid
3. ✘ Arid
4. ✔ Delicious

Question Number : 144 Question Id : 99836718044 Question Type : MCQ Option Shuffling : Yes Display Question Number : Yes  
Single Line Question Option : No Option Orientation : Vertical

Correct Marks : 1 Wrong Marks : 0.25

Select the word that is closest in meaning SYNONYM to the word given below.

LUSCIOUS

Options :

1. ✘ Deserted
2. ✘ Morbid
3. ✘ Arid
4. ✔ Delicious



Question Number : 145 Question Id : 99836718045 Question Type : MCQ Option Shuffling : Yes Display Question Number : Yes  
Single Line Question Option : No Option Orientation : Vertical

Correct Marks : 1 Wrong Marks : 0.25

Select the word that is opposite in meaning ANTONYM to the word given below.

COWARD

Options :

1. ✓ Gutsy
2. ✗ Jerk
3. ✗ Newby
4. ✗ Guilty

Question Number : 145 Question Id : 99836718045 Question Type : MCQ Option Shuffling : Yes Display Question Number : Yes  
Single Line Question Option : No Option Orientation : Vertical

Correct Marks : 1 Wrong Marks : 0.25

Select the word that is opposite in meaning ANTONYM to the word given below.

COWARD

Options :

1. ✓ Gutsy
2. ✗ Jerk
3. ✗ Newby
4. ✗ Guilty

Question Number : 146 Question Id : 99836718046 Question Type : MCQ Option Shuffling : Yes Display Question Number : Yes  
Single Line Question Option : No Option Orientation : Vertical

Correct Marks : 1 Wrong Marks : 0.25

Select the correct word HOMONYM that fills in the blank and makes the sentence meaningful.

The medicine was quite \_\_\_\_\_.

Options :

1. ✗ affect
2. ✗ effect
3. ✗ affective
4. ✓ effective

Question Number : 146 Question Id : 99836718046 Question Type : MCQ Option Shuffling : Yes Display Question Number : Yes  
Single Line Question Option : No Option Orientation : Vertical

Correct Marks : 1 Wrong Marks : 0.25

Select the correct word HOMONYM that fills in the blank and makes the sentence meaningful.

The medicine was quite \_\_\_\_\_.

Options :

1. ✗ affect
2. ✗ effect
3. ✗ affective
4. ✓ effective

Question Number : 147 Question Id : 99836718047 Question Type : MCQ Option Shuffling : Yes Display Question Number : Yes  
Single Line Question Option : No Option Orientation : Vertical

Correct Marks : 1 Wrong Marks : 0.25

Four words are given, out of which only one word is spelt correctly. Choose the correctly spelt word.

Options :

1. ✘ Maleable
2. ✔ Malleable
3. ✘ Malliable
4. ✘ Maliable

Question Number : 147 Question Id : 99836718047 Question Type : MCQ Option Shuffling : Yes Display Question Number : Yes  
Single Line Question Option : No Option Orientation : Vertical

Correct Marks : 1 Wrong Marks : 0.25

Four words are given, out of which only one word is spelt correctly. Choose the correctly spelt word.

Options :

1. ✘ Maleable
2. ✔ Malleable
3. ✘ Malliable
4. ✘ Maliable

Question Number : 148 Question Id : 99836718048 Question Type : MCQ Option Shuffling : Yes Display Question Number : Yes  
Single Line Question Option : No Option Orientation : Vertical

Correct Marks : 1 Wrong Marks : 0.25

Four words are given, out of which only one word is spelt correctly. Choose the correctly spelt word.

Options :

1. ✔ Foreign
2. ✘ Forein
3. ✘ Foregn
4. ✘ Foriegn

Question Number : 148 Question Id : 99836718048 Question Type : MCQ Option Shuffling : Yes Display Question Number : Yes  
Single Line Question Option : No Option Orientation : Vertical

Correct Marks : 1 Wrong Marks : 0.25

Four words are given, out of which only one word is spelt correctly. Choose the correctly spelt word.

Options :

1. ✔ Foreign
2. ✘ Forein
3. ✘ Foregn
4. ✘ Foriegn

Question Number : 149 Question Id : 99836718049 Question Type : MCQ Option Shuffling : Yes Display Question Number : Yes  
Single Line Question Option : No Option Orientation : Vertical

Correct Marks : 1 Wrong Marks : 0.25

Four words are given, out of which only one word is spelt correctly. Choose the correctly spelt word.

Options :

1. ✘ Ignonomy
2. ✘ Ignonimy
3. ✔ Ignominy
4. ✘ Igononomy

Question Number : 149 Question Id : 99836718049 Question Type : MCQ Option Shuffling : Yes Display Question Number : Yes  
Single Line Question Option : No Option Orientation : Vertical

Correct Marks : 1 Wrong Marks : 0.25

Four words are given, out of which only one word is spelt correctly. Choose the correctly spelt word.

Options :

- ✘ Ignonomy
- ✘ Ignonimy
- ✔ Ignominy
- ✘ Igononomy

Question Number : 150 Question Id : 99836718050 Question Type : MCQ Option Shuffling : Yes Display Question Number : Yes  
Single Line Question Option : No Option Orientation : Vertical

Correct Marks : 1 Wrong Marks : 0.25

Select the option that best expresses the meaning of the idiom or phrase given below.

See eye to eye

Options :

- ✔ Agree with someone
- ✘ Meet someone for the first time
- ✘ Fall in love with someone
- ✘ Be seated very close to each other

Question Number : 150 Question Id : 99836718050 Question Type : MCQ Option Shuffling : Yes Display Question Number : Yes  
Single Line Question Option : No Option Orientation : Vertical

Correct Marks : 1 Wrong Marks : 0.25

Select the option that best expresses the meaning of the idiom or phrase given below.

See eye to eye

Options :

- ✔ Agree with someone
- ✘ Meet someone for the first time
- ✘ Fall in love with someone
- ✘ Be seated very close to each other

Question Number : 151 Question Id : 99836718051 Question Type : MCQ Option Shuffling : Yes Display Question Number : Yes  
Single Line Question Option : No Option Orientation : Vertical

Correct Marks : 1 Wrong Marks : 0.25

Select the option that best expresses the meaning of the idiom or phrase given below.

At the drop of a hat

Options :

- ✘ At a predecided venue
- ✔ Without hesitation
- ✘ A small mistake
- ✘ A stylish person

Question Number : 151 Question Id : 99836718051 Question Type : MCQ Option Shuffling : Yes Display Question Number : Yes  
Single Line Question Option : No Option Orientation : Vertical

Correct Marks : 1 Wrong Marks : 0.25

Select the option that best expresses the meaning of the idiom or phrase given below.

At the drop of a hat

Options :

1. ✘ At a predecided venue
2. ✔ Without hesitation
3. ✘ A small mistake
4. ✘ A stylish person

Question Number : 152 Question Id : 99836718052 Question Type : MCQ Option Shuffling : Yes Display Question Number : Yes  
Single Line Question Option : No Option Orientation : Vertical

Correct Marks : 1 Wrong Marks : 0.25

Select the option that best expresses the meaning of the idiom or phrase given below.

Beat around the bush

Options :

1. ✘ To cut down a forest
2. ✘ To make space for agriculture
3. ✔ Avoiding the main topic
4. ✘ Go on a bird hunting expedition

Question Number : 152 Question Id : 99836718052 Question Type : MCQ Option Shuffling : Yes Display Question Number : Yes  
Single Line Question Option : No Option Orientation : Vertical

Correct Marks : 1 Wrong Marks : 0.25

Select the option that best expresses the meaning of the idiom or phrase given below.

Beat around the bush

Options :

1. ✘ To cut down a forest
2. ✘ To make space for agriculture
3. ✔ Avoiding the main topic
4. ✘ Go on a bird hunting expedition

Question Number : 153 Question Id : 99836718053 Question Type : MCQ Option Shuffling : Yes Display Question Number : Yes  
Single Line Question Option : No Option Orientation : Vertical

Correct Marks : 1 Wrong Marks : 0.25

Select the most appropriate 'one word ' for the expressions given below.

Undue favour shown by a person in power to his relatives

Options :

1. ✘ Notation
2. ✘ Relativism
3. ✘ Populism
4. ✔ Nepotism

Question Number : 153 Question Id : 99836718053 Question Type : MCQ Option Shuffling : Yes Display Question Number : Yes  
Single Line Question Option : No Option Orientation : Vertical

Correct Marks : 1 Wrong Marks : 0.25

Select the most appropriate 'one word ' for the expressions given below.

Undue favour shown by a person in power to his relatives

Options :

1. ✘ Notation

2. ✘ Relativism
3. ✘ Populism
4. ✔ Nepotism

Question Number : 154 Question Id : 99836718054 Question Type : MCQ Option Shuffling : Yes Display Question Number : Yes  
Single Line Question Option : No Option Orientation : Vertical

Correct Marks : 1 Wrong Marks : 0.25

Select the most appropriate 'one word ' for the expressions given below.

Able to foretell what will happen in future

Options :

1. ✘ Futuristic
2. ✔ Prescient
3. ✘ Temporal
4. ✘ Amicable

Question Number : 154 Question Id : 99836718054 Question Type : MCQ Option Shuffling : Yes Display Question Number : Yes  
Single Line Question Option : No Option Orientation : Vertical

Correct Marks : 1 Wrong Marks : 0.25

Select the most appropriate 'one word ' for the expressions given below.

Able to foretell what will happen in future

Options :

1. ✘ Futuristic
2. ✔ Prescient
3. ✘ Temporal
4. ✘ Amicable

Question Number : 155 Question Id : 99836718055 Question Type : MCQ Option Shuffling : Yes Display Question Number : Yes  
Single Line Question Option : No Option Orientation : Vertical

Correct Marks : 1 Wrong Marks : 0.25

Select the most appropriate 'one word ' for the expressions given below.

That through which light cannot pass

Options :

1. ✘ Ominous
2. ✘ Translucent
3. ✔ Opaque
4. ✘ Transient

Question Number : 155 Question Id : 99836718055 Question Type : MCQ Option Shuffling : Yes Display Question Number : Yes  
Single Line Question Option : No Option Orientation : Vertical

Correct Marks : 1 Wrong Marks : 0.25

Select the most appropriate 'one word ' for the expressions given below.

That through which light cannot pass

Options :

1. ✘ Ominous
2. ✘ Translucent
3. ✔ Opaque

#### 4. ✖ Transient

**Sub-Section Number:** 2  
**Sub-Section Id:** 998367967  
**Question Shuffling Allowed :** Yes

**Question Id : 99836718056 Question Type : COMPREHENSION Sub Question Shuffling Allowed : Yes Group Comprehension Questions : No**

**Question Numbers : (156 to 160)**

**Question Label : Comprehension**

Read the passage below and answer the questions that follow.

After graduating from college, he started selling correspondence courses to the ranchers among the sand hills of western Nebraska and eastern Wyoming. In spite of all his boundless energy and enthusiasm, he couldn't make the grade. He became so discouraged that he went to his hotel room in Alliance, Nebraska, in the middle of the day, threw himself across the bed, and wept in despair. He longed to go back to college, he longed to retreat from the harsh battle of life; but he couldn't. So he resolved to go to Omaha and get another job. He didn't have the money for a railroad ticket, so he travelled on a freight train, feeding and watering two carloads of wild horses in return for his passage. After landing in Omaha, he got a job selling bacon and soap and lard for Armour and Company. His territory was up among the Badlands and the cow and Indian country of western South Dakota. He covered his territory by freight train and stage coach and horseback and slept in pioneer hotels where the only partition between the rooms was a sheet of muslin. He studied books on salesmanship, rode bucking broncos, played poker with the Indians, and learned how to collect money. And when, for example, an inland storekeeper couldn't pay cash for the bacon and hams he had ordered, Dale Carnegie would take a dozen pairs of shoes off his shelf, sell the shoes to the railroad men, and forward the receipts to Armour and Company.

#### Sub questions

**Question Number : 156 Question Id : 99836718057 Question Type : MCQ Option Shuffling : Yes Display Question Number : Yes Single Line Question Option : No Option Orientation : Vertical**

**Correct Marks : 1 Wrong Marks : 0.25**

Who or what is the subject of this passage?

#### Options :

1. ✖ The Badlands of Omaha
2. ✖ The cowboys of South Dakota
3. ✔ Dale Carnegie
4. ✖ Armour and Company

**Question Number : 157 Question Id : 99836718058 Question Type : MCQ Option Shuffling : Yes Display Question Number : Yes Single Line Question Option : No Option Orientation : Vertical**

**Correct Marks : 1 Wrong Marks : 0.25**

What state of mind do the words 'retreat from the harsh battle of life' convey?

#### Options :

1. ✖ That the protagonist was hopeful about his future
2. ✖ That the protagonist was happy with his present circumstances
3. ✖ That the protagonist was angry with his past circumstances
4. ✔ That the protagonist felt hopeless in the face of challenges thrown by life

Question Number : 158 Question Id : 99836718059 Question Type : MCQ Option Shuffling : Yes Display Question Number : Yes  
Single Line Question Option : No Option Orientation : Vertical

Correct Marks : 1 Wrong Marks : 0.25

Which word in the passage means the same as hopelessness?

Options :

1. ✘ Resolve
2. ✘ Retreat
3. ✘ Freight
4. ✔ Despair

Question Number : 159 Question Id : 99836718060 Question Type : MCQ Option Shuffling : Yes Display Question Number : Yes  
Single Line Question Option : No Option Orientation : Vertical

Correct Marks : 1 Wrong Marks : 0.25

Where did the protagonist go to get 'another job'?

Options :

1. ✔ Omaha
2. ✘ Wyoming
3. ✘ Nebraska
4. ✘ Newark

Question Number : 160 Question Id : 99836718061 Question Type : MCQ Option Shuffling : Yes Display Question Number : Yes  
Single Line Question Option : No Option Orientation : Vertical

Correct Marks : 1 Wrong Marks : 0.25

Who was the protagonist's latter employer?

Options :

1. ✘ The Badlands Alliance
2. ✘ South Dakota Company
3. ✔ Armour and Company
4. ✘ Pioneer Hotels

Question Id : 99836718056 Question Type : COMPREHENSION Sub Question Shuffling Allowed : Yes Group Comprehension  
Questions : No

Question Numbers : (156 to 160)

Question Label : Comprehension

Read the passage below and answer the questions that follow.

After graduating from college, he started selling correspondence courses to the ranchers among the sand hills of western Nebraska and eastern Wyoming. In spite of all his boundless energy and enthusiasm, he couldn't make the grade. He became so discouraged that he went to his hotel room in Alliance, Nebraska, in the middle of the day, threw himself across the bed, and wept in despair. He longed to go back to college, he longed to retreat from the harsh battle of life; but he couldn't. So he resolved to go to Omaha and get another job. He didn't have the money for a railroad ticket, so he travelled on a freight train, feeding and watering two carloads of wild horses in return for his passage. After landing in Omaha, he got a job selling bacon and soap and lard for Armour and Company. His territory was up among the Badlands and the cow and Indian country of western South Dakota. He covered his territory by freight train and stage coach and horseback and slept in pioneer hotels where the only partition between the rooms was a sheet of muslin. He studied books on salesmanship, rode bucking broncos, played poker with the Indians, and learned how to collect money. And when, for example, an inland storekeeper couldn't pay cash for the bacon and hams he had ordered, Dale Carnegie would take a dozen pairs of shoes off his shelf, sell the shoes to the railroad men, and forward the receipts to Armour and Company.

Sub questions

Question Number : 156 Question Id : 99836718057 Question Type : MCQ Option Shuffling : Yes Display Question Number : Yes  
Single Line Question Option : No Option Orientation : Vertical

Correct Marks : 1 Wrong Marks : 0.25

Who or what is the subject of this passage?

Options :

- ✘ The Badlands of Omaha
- ✘ The cowboys of South Dakota
- ✔ Dale Carnegie
- ✘ Armour and Company

Question Number : 157 Question Id : 99836718058 Question Type : MCQ Option Shuffling : Yes Display Question Number : Yes  
Single Line Question Option : No Option Orientation : Vertical

Correct Marks : 1 Wrong Marks : 0.25

What state of mind do the words 'retreat from the harsh battle of life' convey?

Options :

- ✘ That the protagonist was hopeful about his future
- ✘ That the protagonist was happy with his present circumstances
- ✘ That the protagonist was angry with his past circumstances
- ✔ That the protagonist felt hopeless in the face of challenges thrown by life

Question Number : 158 Question Id : 99836718059 Question Type : MCQ Option Shuffling : Yes Display Question Number : Yes  
Single Line Question Option : No Option Orientation : Vertical

Correct Marks : 1 Wrong Marks : 0.25

Which word in the passage means the same as hopelessness?

Options :

- ✘ Resolve
- ✘ Retreat
- ✘ Freight
- ✔ Despair

Question Number : 159 Question Id : 99836718060 Question Type : MCQ Option Shuffling : Yes Display Question Number : Yes  
Single Line Question Option : No Option Orientation : Vertical

Correct Marks : 1 Wrong Marks : 0.25

Where did the protagonist go to get 'another job'?

Options :

- ✔ Omaha
- ✘ Wyoming
- ✘ Nebraska
- ✘ Newark

Question Number : 160 Question Id : 99836718061 Question Type : MCQ Option Shuffling : Yes Display Question Number : Yes  
Single Line Question Option : No Option Orientation : Vertical

Correct Marks : 1 Wrong Marks : 0.25

Who was the protagonist's latter employer?

Options :

- ✘ The Badlands Alliance
- ✘ South Dakota Company



3. ✓ Armour and Company

4. ✗ Pioneer Hotels

### General Hindi 1

Group Number :	9
Group Id :	998367638
Group Maximum Duration :	0
Group Minimum Duration :	0
Revisit allowed for view? :	No
Revisit allowed for edit? :	No
Break time:	0
Group Marks:	20
Revisit allowed for group Instructions? :	Yes
Maximum Instruction Time:	0
Minimum Instruction Time:	0

### General Hindi 1

Section Id :	998367759
Section Number :	1
Section type :	Online
Mandatory or Optional:	Mandatory
Number of Questions:	20
Number of Questions to be attempted:	20
Section Marks:	20
Display Number Panel:	Yes
Group All Questions:	No

Sub-Section Number:	1
Sub-Section Id:	998367968
Question Shuffling Allowed :	Yes

Question Number : 161 Question Id : 99836718062 Question Type : MCQ Option Shuffling : Yes Display Question Number : Yes  
Single Line Question Option : No Option Orientation : Vertical

Correct Marks : 1 Wrong Marks : 0.25

निम्नलिखित प्रश्न में, चार विकल्पों में से, उस विकल्प का चयन करें जो देशज शब्द का सही विकल्प हो।

Options :

1. ✗ गोश्त
2. ✗ बेहूदा
3. ✓ पों-पों
4. ✗ जनाब

Question Number : 161 Question Id : 99836718062 Question Type : MCQ Option Shuffling : Yes Display Question Number : Yes  
Single Line Question Option : No Option Orientation : Vertical

Correct Marks : 1 Wrong Marks : 0.25

निम्नलिखित प्रश्न में, चार विकल्पों में से, उस विकल्प का चयन करें जो देशज शब्द का सही विकल्प हो।

Options :

1. ✗ गोश्त

2. ✘ बेहूदा
3. ✔ पों-पों
4. ✘ जनाब

Question Number : 162 Question Id : 99836718063 Question Type : MCQ Option Shuffling : Yes Display Question Number : Yes  
Single Line Question Option : No Option Orientation : Vertical

Correct Marks : 1 Wrong Marks : 0.25

निम्नलिखित प्रश्न में, चार विकल्पों में से, उस विकल्प का चयन करें जो विदेशी शब्द का सही विकल्प नहीं हो।

Options :

1. ✘ हफता
2. ✔ ठक-ठक
3. ✘ पिस्तौल
4. ✘ कारतूस

Question Number : 162 Question Id : 99836718063 Question Type : MCQ Option Shuffling : Yes Display Question Number : Yes  
Single Line Question Option : No Option Orientation : Vertical

Correct Marks : 1 Wrong Marks : 0.25

निम्नलिखित प्रश्न में, चार विकल्पों में से, उस विकल्प का चयन करें जो विदेशी शब्द का सही विकल्प नहीं हो।

Options :

1. ✘ हफता
2. ✔ ठक-ठक
3. ✘ पिस्तौल
4. ✘ कारतूस

Question Number : 163 Question Id : 99836718064 Question Type : MCQ Option Shuffling : Yes Display Question Number : Yes  
Single Line Question Option : No Option Orientation : Vertical

Correct Marks : 1 Wrong Marks : 0.25

निम्नलिखित प्रश्न में, चार विकल्पों में से, उस विकल्प का चयन करें जो दिए गए शब्द के लिए सही बहुव्रीहि समास के विग्रह का विकल्प हो।

घनश्याम

Options :

1. ✔ घन के समान श्याम है जो अर्थात् श्रीकृष्ण
2. ✘ घन के समान श्याम
3. ✘ श्याम घन है जो
4. ✘ जो घन है श्याम

Question Number : 163 Question Id : 99836718064 Question Type : MCQ Option Shuffling : Yes Display Question Number : Yes  
Single Line Question Option : No Option Orientation : Vertical

Correct Marks : 1 Wrong Marks : 0.25

निम्नलिखित प्रश्न में, चार विकल्पों में से, उस विकल्प का चयन करें जो दिए गए शब्द के लिए सही बहुव्रीहि समास के विग्रह का विकल्प हो।

घनश्याम

Options :

1. ✔ घन के समान श्याम है जो अर्थात् श्रीकृष्ण
2. ✘ घन के समान श्याम
3. ✘ श्याम घन है जो
4. ✘ जो घन है श्याम

Question Number : 164 Question Id : 99836718065 Question Type : MCQ Option Shuffling : Yes Display Question Number : Yes  
Single Line Question Option : No Option Orientation : Vertical

Correct Marks : 1 Wrong Marks : 0.25

निम्नलिखित प्रश्न में, चार विकल्पों में से, उस विकल्प का चयन करें जो क्रिया के भेद वाला सही विकल्प हो।

नरेश मोहन से पत्र लिखवाता है।

Options :

1. ✘ पूर्वकालिक क्रिया
2. ✘ नामधातु
3. ✔ प्रेरणार्थक क्रिया
4. ✘ संयुक्त क्रिया

Question Number : 164 Question Id : 99836718065 Question Type : MCQ Option Shuffling : Yes Display Question Number : Yes  
Single Line Question Option : No Option Orientation : Vertical

Correct Marks : 1 Wrong Marks : 0.25

निम्नलिखित प्रश्न में, चार विकल्पों में से, उस विकल्प का चयन करें जो क्रिया के भेद वाला सही विकल्प हो।

नरेश मोहन से पत्र लिखवाता है।

Options :

1. ✘ पूर्वकालिक क्रिया
2. ✘ नामधातु
3. ✔ प्रेरणार्थक क्रिया
4. ✘ संयुक्त क्रिया

Question Number : 165 Question Id : 99836718066 Question Type : MCQ Option Shuffling : Yes Display Question Number : Yes  
Single Line Question Option : No Option Orientation : Vertical

Correct Marks : 1 Wrong Marks : 0.25

निम्नलिखित प्रश्न में, चार विकल्पों में से, उस विकल्प का चयन करें जो दिए गए वाक्य के लिए अव्यय के भेद का सही विकल्प हो।

उतना खेलो जितना जरूरी हो।

Options :

1. ✘ स्थानवाचक क्रियाविशेषण अव्यय
2. ✘ रीतिवाचक क्रियाविशेषण अव्यय
3. ✘ कालवाचक क्रियाविशेषण अव्यय
4. ✔ परिमाणवाचक क्रियाविशेषण अव्यय

Question Number : 165 Question Id : 99836718066 Question Type : MCQ Option Shuffling : Yes Display Question Number : Yes  
Single Line Question Option : No Option Orientation : Vertical

Correct Marks : 1 Wrong Marks : 0.25

निम्नलिखित प्रश्न में, चार विकल्पों में से, उस विकल्प का चयन करें जो दिए गए वाक्य के लिए अव्यय के भेद का सही विकल्प हो।

उतना खेलो जितना जरूरी हो।

Options :

1. ✘ स्थानवाचक क्रियाविशेषण अव्यय
2. ✘ रीतिवाचक क्रियाविशेषण अव्यय
3. ✘ कालवाचक क्रियाविशेषण अव्यय
4. ✔ परिमाणवाचक क्रियाविशेषण अव्यय

Question Number : 166 Question Id : 99836718067 Question Type : MCQ Option Shuffling : Yes Display Question Number : Yes  
Single Line Question Option : No Option Orientation : Vertical

Correct Marks : 1 Wrong Marks : 0.25

निम्नलिखित प्रश्न में, चार विकल्पों में से, उस विकल्प का चयन करें जो दिए गए शब्द के पर्यायवाची शब्द का सही विकल्प नहीं है।

कुब्ज

Options :

1. ✘ रह
2. ✘ बिगड़ना
3. ✔ कृतार्थ
4. ✘ नाराज़

Question Number : 166 Question Id : 99836718067 Question Type : MCQ Option Shuffling : Yes Display Question Number : Yes  
Single Line Question Option : No Option Orientation : Vertical

Correct Marks : 1 Wrong Marks : 0.25

निम्नलिखित प्रश्न में, चार विकल्पों में से, उस विकल्प का चयन करें जो दिए गए शब्द के पर्यायवाची शब्द का सही विकल्प नहीं है।

कुब्ज

Options :

1. ✘ रह
2. ✘ बिगड़ना
3. ✔ कृतार्थ
4. ✘ नाराज़

Question Number : 167 Question Id : 99836718068 Question Type : MCQ Option Shuffling : Yes Display Question Number : Yes  
Single Line Question Option : No Option Orientation : Vertical

Correct Marks : 1 Wrong Marks : 0.25

निम्नलिखित प्रश्न में, चार विकल्पों में से, उस विकल्प का चयन करें जो दिए गए शब्द के पर्यायवाची शब्द का सही विकल्प नहीं है।

डरपोक

Options :

1. ✔ कराल
2. ✘ भीरु
3. ✘ बुजदिल
4. ✘ कायर

Question Number : 167 Question Id : 99836718068 Question Type : MCQ Option Shuffling : Yes Display Question Number : Yes  
Single Line Question Option : No Option Orientation : Vertical

Correct Marks : 1 Wrong Marks : 0.25

निम्नलिखित प्रश्न में, चार विकल्पों में से, उस विकल्प का चयन करें जो दिए गए शब्द के पर्यायवाची शब्द का सही विकल्प नहीं है।

डरपोक

Options :

1. ✔ कराल
2. ✘ भीरु
3. ✘ बुजदिल
4. ✘ कायर

Question Number : 168 Question Id : 99836718069 Question Type : MCQ Option Shuffling : Yes Display Question Number : Yes  
Single Line Question Option : No Option Orientation : Vertical

Correct Marks : 1 Wrong Marks : 0.25

निम्नलिखित प्रश्न में, चार विकल्पों में से, उस विकल्प का चयन करें जो दिए गए शब्द के विलोम शब्द का सही विकल्प है।

भूषण

Options :

1. ✘ चर्षण
2. ✔ दूषण
3. ✘ निर्दोष
4. ✘ समर्थन

Question Number : 168 Question Id : 99836718069 Question Type : MCQ Option Shuffling : Yes Display Question Number : Yes  
Single Line Question Option : No Option Orientation : Vertical

Correct Marks : 1 Wrong Marks : 0.25

निम्नलिखित प्रश्न में, चार विकल्पों में से, उस विकल्प का चयन करें जो दिए गए शब्द के विलोम शब्द का सही विकल्प है।

भूषण

Options :

1. ✘ चर्षण
2. ✔ दूषण
3. ✘ निर्दोष
4. ✘ समर्थन

Question Number : 169 Question Id : 99836718070 Question Type : MCQ Option Shuffling : Yes Display Question Number : Yes  
Single Line Question Option : No Option Orientation : Vertical

Correct Marks : 1 Wrong Marks : 0.25

निम्नलिखित प्रश्न में, चार विकल्पों में से, उस विकल्प का चयन करें जो दिए गए शब्द के विलोम शब्द का सही विकल्प है।

कनिष्ठ

Options :

1. ✘ विशिष्ट
2. ✘ छोटा
3. ✘ प्रविष्ट
4. ✔ वरिष्ठ

Question Number : 169 Question Id : 99836718070 Question Type : MCQ Option Shuffling : Yes Display Question Number : Yes  
Single Line Question Option : No Option Orientation : Vertical

Correct Marks : 1 Wrong Marks : 0.25

निम्नलिखित प्रश्न में, चार विकल्पों में से, उस विकल्प का चयन करें जो दिए गए शब्द के विलोम शब्द का सही विकल्प है।

कनिष्ठ

Options :

1. ✘ विशिष्ट
2. ✘ छोटा
3. ✘ प्रविष्ट
4. ✔ वरिष्ठ

Question Number : 170 Question Id : 99836718071 Question Type : MCQ Option Shuffling : Yes Display Question Number : Yes  
Single Line Question Option : No Option Orientation : Vertical

Correct Marks : 1 Wrong Marks : 0.25

निम्नलिखित प्रश्न में, चार विकल्पों में से, उस सही विकल्प का चयन करें जो दिए गए शब्द-युग्म के अर्थ का सही विकल्प हो।

विधान-व्यवधान

Options :

1. ✔ व्यवस्था और रुकावट

2. ✘ समूह और व्यवस्था
3. ✘ व्यवस्था और व्यक्ति
4. ✘ व्यक्ति और रुकावट

Question Number : 170 Question Id : 99836718071 Question Type : MCQ Option Shuffling : Yes Display Question Number : Yes  
Single Line Question Option : No Option Orientation : Vertical

Correct Marks : 1 Wrong Marks : 0.25

निम्नलिखित प्रश्न में, चार विकल्पों में से, उस सही विकल्प का चयन करें जो दिए गए शब्द-युग्म के अर्थ का सही विकल्प हो।

विधान-व्यवधान

Options :

1. ✔ व्यवस्था और रुकावट
2. ✘ समूह और व्यवस्था
3. ✘ व्यवस्था और व्यक्ति
4. ✘ व्यक्ति और रुकावट

Question Number : 171 Question Id : 99836718072 Question Type : MCQ Option Shuffling : Yes Display Question Number : Yes  
Single Line Question Option : No Option Orientation : Vertical

Correct Marks : 1 Wrong Marks : 0.25

निम्नलिखित प्रश्न में, चार विकल्पों में से, उस विकल्प का चयन करें जो दिए गए वाक्यांश के लिए एक शब्द का सही विकल्प है।

जिसे प्रतिष्ठा प्राप्त हो

Options :

1. ✔ लब्धप्रतिष्ठ
2. ✘ लिप्सा
3. ✘ विरप्रसू
4. ✘ सर्वसम्मत

Question Number : 171 Question Id : 99836718072 Question Type : MCQ Option Shuffling : Yes Display Question Number : Yes  
Single Line Question Option : No Option Orientation : Vertical

Correct Marks : 1 Wrong Marks : 0.25

निम्नलिखित प्रश्न में, चार विकल्पों में से, उस विकल्प का चयन करें जो दिए गए वाक्यांश के लिए एक शब्द का सही विकल्प है।

जिसे प्रतिष्ठा प्राप्त हो

Options :

1. ✔ लब्धप्रतिष्ठ
2. ✘ लिप्सा
3. ✘ विरप्रसू
4. ✘ सर्वसम्मत

Question Number : 172 Question Id : 99836718073 Question Type : MCQ Option Shuffling : Yes Display Question Number : Yes  
Single Line Question Option : No Option Orientation : Vertical

Correct Marks : 1 Wrong Marks : 0.25

निम्नलिखित प्रश्न में, चार विकल्पों में से, उस सही विकल्प का चयन करें जो रिक्त स्थान के लिए उचित विकल्प हो।

रात के समय स्वर्ण मंदिर की ----- ही निराली है।

Options :

1. ✘ छटता
2. ✘ छत्ता
3. ✘ छठा

4. ✓ छटा

Question Number : 172 Question Id : 99836718073 Question Type : MCQ Option Shuffling : Yes Display Question Number : Yes  
Single Line Question Option : No Option Orientation : Vertical

Correct Marks : 1 Wrong Marks : 0.25

निम्नलिखित प्रश्न में, चार विकल्पों में से, उस सही विकल्प का चयन करें जो रिक्त स्थान के लिए उचित विकल्प हो

रात के समय स्वर्ण मंदिर की ----- ही निराली है

Options :

1. ✗ छरता
2. ✗ छत्ता
3. ✗ छठा
4. ✓ छटा

Question Number : 173 Question Id : 99836718074 Question Type : MCQ Option Shuffling : Yes Display Question Number : Yes  
Single Line Question Option : No Option Orientation : Vertical

Correct Marks : 1 Wrong Marks : 0.25

निम्नलिखित प्रश्न में, चार विकल्पों में से, उस विकल्प का चयन करें जो दिए गए शब्द के समानार्थी शब्द का विकल्प नहीं है

मराल

Options :

1. ✗ धवलपक्ष
2. ✗ सितपक्ष
3. ✓ मारुत
4. ✗ राजहंस

Question Number : 173 Question Id : 99836718074 Question Type : MCQ Option Shuffling : Yes Display Question Number : Yes  
Single Line Question Option : No Option Orientation : Vertical

Correct Marks : 1 Wrong Marks : 0.25

निम्नलिखित प्रश्न में, चार विकल्पों में से, उस विकल्प का चयन करें जो दिए गए शब्द के समानार्थी शब्द का विकल्प नहीं है

मराल

Options :

1. ✗ धवलपक्ष
2. ✗ सितपक्ष
3. ✓ मारुत
4. ✗ राजहंस

Question Number : 174 Question Id : 99836718075 Question Type : MCQ Option Shuffling : Yes Display Question Number : Yes  
Single Line Question Option : No Option Orientation : Vertical

Correct Marks : 1 Wrong Marks : 0.25

निम्नलिखित प्रश्न में, चार विकल्पों में से, उस सही विकल्प का चयन करें जो रिक्त स्थान के लिए उपयुक्त शब्द का सही विकल्प है

----- लड़की को बुलाओ

Options :

1. ✗ उन
2. ✓ उस
3. ✗ वह
4. ✗ वे

Question Number : 174 Question Id : 99836718075 Question Type : MCQ Option Shuffling : Yes Display Question Number : Yes  
Single Line Question Option : No Option Orientation : Vertical

Correct Marks : 1 Wrong Marks : 0.25

निम्नलिखित प्रश्न में, चार विकल्पों में से, उस सही विकल्प का चयन करें जो रिक्त स्थान के लिए उपयुक्त शब्द का सही विकल्प है।

----- लड़की को बुलाओ।

Options :

1. ✘ उन
2. ✔ उस
3. ✘ वह
4. ✘ वे

Question Number : 175 Question Id : 99836718076 Question Type : MCQ Option Shuffling : Yes Display Question Number : Yes  
Single Line Question Option : No Option Orientation : Vertical

Correct Marks : 1 Wrong Marks : 0.25

निम्नलिखित प्रश्न में, चार विकल्पों में से, उस विकल्प का चयन करें जो शुद्ध शब्द का सही विकल्प है।

Options :

1. ✘ अस्ताध्यायी
2. ✘ अष्टाध्यायी
3. ✘ अस्ताध्याई
4. ✔ अष्टाध्यायी

Question Number : 175 Question Id : 99836718076 Question Type : MCQ Option Shuffling : Yes Display Question Number : Yes  
Single Line Question Option : No Option Orientation : Vertical

Correct Marks : 1 Wrong Marks : 0.25

निम्नलिखित प्रश्न में, चार विकल्पों में से, उस विकल्प का चयन करें जो शुद्ध शब्द का सही विकल्प है।

Options :

1. ✘ अस्ताध्यायी
2. ✘ अष्टाध्यायी
3. ✘ अस्ताध्याई
4. ✔ अष्टाध्यायी

Question Number : 176 Question Id : 99836718077 Question Type : MCQ Option Shuffling : Yes Display Question Number : Yes  
Single Line Question Option : No Option Orientation : Vertical

Correct Marks : 1 Wrong Marks : 0.25

निम्नलिखित प्रश्न में, चार विकल्पों में से, उस विकल्प का चयन करें जो सदा पुल्लिंग वाला शब्द है।

Options :

1. ✘ लुरिया
2. ✘ लड़ाई
3. ✔ लघुत्व
4. ✘ जर्मन

Question Number : 176 Question Id : 99836718077 Question Type : MCQ Option Shuffling : Yes Display Question Number : Yes  
Single Line Question Option : No Option Orientation : Vertical

Correct Marks : 1 Wrong Marks : 0.25

निम्नलिखित प्रश्न में, चार विकल्पों में से, उस विकल्प का चयन करें जो सदा पुल्लिंग वाला शब्द है।

Options :

1. ✘ लुरिया
2. ✘ लड़ाई



3. ✓ लघुत्व

4. ✗ जर्मन

Question Number : 177 Question Id : 99836718078 Question Type : MCQ Option Shuffling : Yes Display Question Number : Yes  
Single Line Question Option : No Option Orientation : Vertical

Correct Marks : 1 Wrong Marks : 0.25

निम्नलिखित प्रश्न में, चार विकल्पों में से, उस विकल्प का चयन करें जो दिए गए शब्द का स्त्रीलिंग शब्द वाला विकल्प है।

मूर्ख

Options :

1. ✗ मुखानी

2. ✗ मुखी

3. ✗ मुखिनी

4. ✓ मूर्खा

Question Number : 177 Question Id : 99836718078 Question Type : MCQ Option Shuffling : Yes Display Question Number : Yes  
Single Line Question Option : No Option Orientation : Vertical

Correct Marks : 1 Wrong Marks : 0.25

निम्नलिखित प्रश्न में, चार विकल्पों में से, उस विकल्प का चयन करें जो दिए गए शब्द का स्त्रीलिंग शब्द वाला विकल्प है।

मूर्ख

Options :

1. ✗ मुखानी

2. ✗ मुखी

3. ✗ मुखिनी

4. ✓ मूर्खा

Question Number : 178 Question Id : 99836718079 Question Type : MCQ Option Shuffling : Yes Display Question Number : Yes  
Single Line Question Option : No Option Orientation : Vertical

Correct Marks : 1 Wrong Marks : 0.25

निम्नलिखित प्रश्न में, चार विकल्पों में से, उस विकल्प का चयन करें जो सदा बहुवचन शब्द का सबसे अच्छा विकल्प है।

Options :

1. ✗ तेल

2. ✓ समाचार

3. ✗ चाँदी

4. ✗ रोली

Question Number : 178 Question Id : 99836718079 Question Type : MCQ Option Shuffling : Yes Display Question Number : Yes  
Single Line Question Option : No Option Orientation : Vertical

Correct Marks : 1 Wrong Marks : 0.25

निम्नलिखित प्रश्न में, चार विकल्पों में से, उस विकल्प का चयन करें जो सदा बहुवचन शब्द का सबसे अच्छा विकल्प है।

Options :

1. ✗ तेल

2. ✓ समाचार

3. ✗ चाँदी

4. ✗ रोली

Question Number : 179 Question Id : 99836718080 Question Type : MCQ Option Shuffling : Yes Display Question Number : Yes  
Single Line Question Option : No Option Orientation : Vertical

Correct Marks : 1 Wrong Marks : 0.25

निम्नलिखित प्रश्न में, चार विकल्पों में से, उस विकल्प का चयन करें जो दिए गए शब्द के बहुवचन शब्द का सबसे अच्छा विकल्प है।

थाली

Options :

1. ✘ थालियों
2. ✘ थालीया
3. ✔ थालियाँ
4. ✘ थालियें

Question Number : 179 Question Id : 99836718080 Question Type : MCQ Option Shuffling : Yes Display Question Number : Yes  
Single Line Question Option : No Option Orientation : Vertical

Correct Marks : 1 Wrong Marks : 0.25

निम्नलिखित प्रश्न में, चार विकल्पों में से, उस विकल्प का चयन करें जो दिए गए शब्द के बहुवचन शब्द का सबसे अच्छा विकल्प है।

थाली

Options :

1. ✘ थालियों
2. ✘ थालीया
3. ✔ थालियाँ
4. ✘ थालियें

Question Number : 180 Question Id : 99836718081 Question Type : MCQ Option Shuffling : Yes Display Question Number : Yes  
Single Line Question Option : No Option Orientation : Vertical

Correct Marks : 1 Wrong Marks : 0.25

निम्नलिखित प्रश्न में, चार विकल्पों में से, उस विकल्प का चयन करें जो कोष्ठक में दिए गए शब्द के अनुसार उत्तम पुरुषवाचक सर्वनाम का सही विकल्प हो।

Options :

1. ✔ (हमने) बहुत दिनों से कुछ भी खाया नहीं है।
2. ✘ (वह) कहाँ जा रहा है ?
3. ✘ (उसने) गृहकार्य पूरा कर लिया है।
4. ✘ (तुम) बीमार लग रहे हो।

Question Number : 180 Question Id : 99836718081 Question Type : MCQ Option Shuffling : Yes Display Question Number : Yes  
Single Line Question Option : No Option Orientation : Vertical

Correct Marks : 1 Wrong Marks : 0.25

निम्नलिखित प्रश्न में, चार विकल्पों में से, उस विकल्प का चयन करें जो कोष्ठक में दिए गए शब्द के अनुसार उत्तम पुरुषवाचक सर्वनाम का सही विकल्प हो।

Options :

1. ✔ (हमने) बहुत दिनों से कुछ भी खाया नहीं है।
2. ✘ (वह) कहाँ जा रहा है ?
3. ✘ (उसने) गृहकार्य पूरा कर लिया है।
4. ✘ (तुम) बीमार लग रहे हो।

General Hindi2

Group Number :	10
Group Id :	998367639
Group Maximum Duration :	0
Group Minimum Duration :	120
Revisit allowed for view? :	No
Revisit allowed for edit? :	No

Break time:	0
Group Marks:	20
Revisit allowed for group Instructions? :	Yes
Maximum Instruction Time:	0
Minimum Instruction Time:	0

## General Hindi2

Section Id :	998367760
Section Number :	1
Section type :	Online
Mandatory or Optional:	Mandatory
Number of Questions:	16
Number of Questions to be attempted:	16
Section Marks:	20
Display Number Panel:	Yes
Group All Questions:	No

Sub-Section Number:	1
Sub-Section Id:	998367969
Question Shuffling Allowed :	Yes

Question Number : 181 Question Id : 99836718082 Question Type : MCQ Option Shuffling : Yes Display Question Number : Yes  
Single Line Question Option : No Option Orientation : Vertical

Correct Marks : 1 Wrong Marks : 0.25

निम्नलिखित प्रश्न में, चार विकल्पों में से, उस विकल्प का चयन करें जो दिए गए वाक्य के काल के भेद का सही विकल्प हो।

माता जी खाना बना ली होंगी।

Options :

1. ✘ हेतुहेतु मद् भूतकाल
2. ✘ आसन्न भूतकाल
3. ✘ अपूर्ण भूतकाल
4. ✔ संदिग्ध भूतकाल

Question Number : 181 Question Id : 99836718082 Question Type : MCQ Option Shuffling : Yes Display Question Number : Yes  
Single Line Question Option : No Option Orientation : Vertical

Correct Marks : 1 Wrong Marks : 0.25

निम्नलिखित प्रश्न में, चार विकल्पों में से, उस विकल्प का चयन करें जो दिए गए वाक्य के काल के भेद का सही विकल्प हो।

माता जी खाना बना ली होंगी।

Options :

1. ✘ हेतुहेतु मद् भूतकाल
2. ✘ आसन्न भूतकाल
3. ✘ अपूर्ण भूतकाल
4. ✔ संदिग्ध भूतकाल

Question Number : 182 Question Id : 99836718083 Question Type : MCQ Option Shuffling : Yes Display Question Number : Yes  
Single Line Question Option : No Option Orientation : Vertical

Correct Marks : 1 Wrong Marks : 0.25

निम्नलिखित प्रश्न में, चार विकल्पों में से, उस विकल्प का चयन करें जो दिए गए वाक्य के लिए वृत्ति के भेद का सबसे अच्छा विकल्प है।

अगर पैसे मिलते तो मैं घूमने चला जाता।

Options :

1. ✘ विध्यर्थ
2. ✔ संकेतार्थ
3. ✘ संदेहार्थ
4. ✘ निश्चयार्थ

Question Number : 182 Question Id : 99836718083 Question Type : MCQ Option Shuffling : Yes Display Question Number : Yes  
Single Line Question Option : No Option Orientation : Vertical

Correct Marks : 1 Wrong Marks : 0.25

निम्नलिखित प्रश्न में, चार विकल्पों में से, उस विकल्प का चयन करें जो दिए गए वाक्य के लिए वृत्ति के भेद का सबसे अच्छा विकल्प है।

अगर पैसे मिलते तो मैं घूमने चला जाता।

Options :

1. ✘ विध्यर्थ
2. ✔ संकेतार्थ
3. ✘ संदेहार्थ
4. ✘ निश्चयार्थ

Question Number : 183 Question Id : 99836718084 Question Type : MCQ Option Shuffling : Yes Display Question Number : Yes  
Single Line Question Option : No Option Orientation : Vertical

Correct Marks : 1 Wrong Marks : 0.25

निम्नलिखित प्रश्न में, चार विकल्पों में से, उस विकल्प का चयन करें जो दिए गए वाक्य के लिए पक्ष के भेद का सबसे अच्छा विकल्प है।

वह अब तक काफी काम कर चुका है।

Options :

1. ✘ सातप्यबोधक
2. ✔ पूर्णताद्योतक
3. ✘ प्रगतिद्योतक
4. ✘ आरंभद्योतक

Question Number : 183 Question Id : 99836718084 Question Type : MCQ Option Shuffling : Yes Display Question Number : Yes  
Single Line Question Option : No Option Orientation : Vertical

Correct Marks : 1 Wrong Marks : 0.25

निम्नलिखित प्रश्न में, चार विकल्पों में से, उस विकल्प का चयन करें जो दिए गए वाक्य के लिए पक्ष के भेद का सबसे अच्छा विकल्प है।

वह अब तक काफी काम कर चुका है।

Options :

1. ✘ सातप्यबोधक
2. ✔ पूर्णताद्योतक
3. ✘ प्रगतिद्योतक
4. ✘ आरंभद्योतक

Question Number : 184 Question Id : 99836718085 Question Type : MCQ Option Shuffling : Yes Display Question Number : Yes  
Single Line Question Option : No Option Orientation : Vertical

Correct Marks : 1 Wrong Marks : 0.25

निम्न विकल्पों में से निर्देशानुसार वाच्य परिवर्तन का विकल्प चुनिए।

नौकरानी द्वारा सफाई की जाती है (कर्तृवाच्य)

Options :

1. ✓ नौकरानी सफाई कराती है
2. ✗ सफाई नौकरानी कराती है
3. ✗ सफाई कराती है नौकरानी
4. ✗ करती है सफाई नौकरानी

Question Number : 184 Question Id : 99836718085 Question Type : MCQ Option Shuffling : Yes Display Question Number : Yes  
Single Line Question Option : No Option Orientation : Vertical

Correct Marks : 1 Wrong Marks : 0.25

निम्न विकल्पों में से निर्देशानुसार वाच्य परिवर्तन का विकल्प चुनिए।

नौकरानी द्वारा सफाई की जाती है (कर्तृवाच्य)

Options :

1. ✓ नौकरानी सफाई कराती है
2. ✗ सफाई नौकरानी कराती है
3. ✗ सफाई कराती है नौकरानी
4. ✗ करती है सफाई नौकरानी

Question Number : 185 Question Id : 99836718086 Question Type : MCQ Option Shuffling : Yes Display Question Number : Yes  
Single Line Question Option : No Option Orientation : Vertical

Correct Marks : 1 Wrong Marks : 0.25

निम्नलिखित प्रश्न में, चार विकल्पों में से, उस विकल्प का चयन करें जो सही वाक्य भेद का विकल्प हो।

आप टहलने जाएँगे या सोने।

Options :

1. ✗ मिश्र वाक्य
2. ✓ संयुक्त वाक्य
3. ✗ निषेधवाचक वाक्य
4. ✗ सरल वाक्य

Question Number : 185 Question Id : 99836718086 Question Type : MCQ Option Shuffling : Yes Display Question Number : Yes  
Single Line Question Option : No Option Orientation : Vertical

Correct Marks : 1 Wrong Marks : 0.25

निम्नलिखित प्रश्न में, चार विकल्पों में से, उस विकल्प का चयन करें जो सही वाक्य भेद का विकल्प हो।

आप टहलने जाएँगे या सोने।

Options :

1. ✗ मिश्र वाक्य
2. ✓ संयुक्त वाक्य
3. ✗ निषेधवाचक वाक्य
4. ✗ सरल वाक्य

Question Number : 186 Question Id : 99836718087 Question Type : MCQ Option Shuffling : Yes Display Question Number : Yes  
Single Line Question Option : No Option Orientation : Vertical

Correct Marks : 1 Wrong Marks : 0.25

निम्नलिखित प्रश्न में, चार विकल्पों में से, उस विकल्प का चयन करें जो सही वाक्य भेद का विकल्प हो

जो सरल स्वभाव का होता है, उसे सब पसंद करते हैं

Options :

1. ✘ संयुक्त वाक्य
2. ✘ सरल वाक्य
3. ✔ मिश्र वाक्य
4. ✘ संकेतवाचक वाक्य

Question Number : 186 Question Id : 99836718087 Question Type : MCQ Option Shuffling : Yes Display Question Number : Yes  
Single Line Question Option : No Option Orientation : Vertical

Correct Marks : 1 Wrong Marks : 0.25

निम्नलिखित प्रश्न में, चार विकल्पों में से, उस विकल्प का चयन करें जो सही वाक्य भेद का विकल्प हो

जो सरल स्वभाव का होता है, उसे सब पसंद करते हैं

Options :

1. ✘ संयुक्त वाक्य
2. ✘ सरल वाक्य
3. ✔ मिश्र वाक्य
4. ✘ संकेतवाचक वाक्य

Question Number : 187 Question Id : 99836718088 Question Type : MCQ Option Shuffling : Yes Display Question Number : Yes  
Single Line Question Option : No Option Orientation : Vertical

Correct Marks : 1 Wrong Marks : 0.25

निम्नलिखित प्रश्न में, चार विकल्पों में से, उस विकल्प का चयन करें जो सही वाक्य भेद का विकल्प हो

मेला बहुत सुन्दर है

Options :

1. ✘ विधानवाचक वाक्य
2. ✔ सरल वाक्य
3. ✘ मिश्र वाक्य
4. ✘ संयुक्त वाक्य

Question Number : 187 Question Id : 99836718088 Question Type : MCQ Option Shuffling : Yes Display Question Number : Yes  
Single Line Question Option : No Option Orientation : Vertical

Correct Marks : 1 Wrong Marks : 0.25

निम्नलिखित प्रश्न में, चार विकल्पों में से, उस विकल्प का चयन करें जो सही वाक्य भेद का विकल्प हो

मेला बहुत सुन्दर है

Options :

1. ✘ विधानवाचक वाक्य
2. ✔ सरल वाक्य
3. ✘ मिश्र वाक्य
4. ✘ संयुक्त वाक्य

Question Number : 188 Question Id : 99836718089 Question Type : MCQ Option Shuffling : Yes Display Question Number : Yes  
Single Line Question Option : No Option Orientation : Vertical

Correct Marks : 1 Wrong Marks : 0.25

निम्नलिखित प्रश्न में, चार विकल्पों में से, उस विकल्प का चयन करें जो विराम चिह्न युक्त वाक्य का सही विकल्प हो

Options :

- ✘ राम ने कहा; मैंने पढ़ना छोड़ दिया है।
- ✘ राम ने कहा- मैंने पढ़ना छोड़ दिया है।
- ✘ राम ने कहा: - मैंने पढ़ना छोड़ दिया है।
- ✔ राम ने कहा, "मैंने पढ़ना छोड़ दिया है।"

Question Number : 188 Question Id : 99836718089 Question Type : MCQ Option Shuffling : Yes Display Question Number : Yes  
Single Line Question Option : No Option Orientation : Vertical

Correct Marks : 1 Wrong Marks : 0.25

निम्नलिखित प्रश्न में, चार विकल्पों में से, उस विकल्प का चयन करें जो विराम चिह्न युक्त वाक्य का सही विकल्प हो

Options :

- ✘ राम ने कहा; मैंने पढ़ना छोड़ दिया है।
- ✘ राम ने कहा- मैंने पढ़ना छोड़ दिया है।
- ✘ राम ने कहा: - मैंने पढ़ना छोड़ दिया है।
- ✔ राम ने कहा, "मैंने पढ़ना छोड़ दिया है।"

Question Number : 189 Question Id : 99836718090 Question Type : MCQ Option Shuffling : Yes Display Question Number : Yes  
Single Line Question Option : No Option Orientation : Vertical

Correct Marks : 1 Wrong Marks : 0.25

निम्नलिखित प्रश्न में, चार विकल्पों में से, उस विकल्प का चयन करें जो विराम चिह्न युक्त वाक्य का सही विकल्प हो

Options :

- ✘ तुमने जो चित्र खरीदा था - वह कहाँ है?
- ✘ तुमने जो चित्र खरीदा था: - वह कहाँ है?
- ✔ तुमने जो चित्र खरीदा था, वह कहाँ है?
- ✘ तुमने जो चित्र खरीदा था, वह कहाँ है।

Question Number : 189 Question Id : 99836718090 Question Type : MCQ Option Shuffling : Yes Display Question Number : Yes  
Single Line Question Option : No Option Orientation : Vertical

Correct Marks : 1 Wrong Marks : 0.25

निम्नलिखित प्रश्न में, चार विकल्पों में से, उस विकल्प का चयन करें जो विराम चिह्न युक्त वाक्य का सही विकल्प हो

Options :

- ✘ तुमने जो चित्र खरीदा था - वह कहाँ है?
- ✘ तुमने जो चित्र खरीदा था: - वह कहाँ है?
- ✔ तुमने जो चित्र खरीदा था, वह कहाँ है?
- ✘ तुमने जो चित्र खरीदा था, वह कहाँ है।

Question Number : 190 Question Id : 99836718091 Question Type : MCQ Option Shuffling : Yes Display Question Number : Yes  
Single Line Question Option : No Option Orientation : Vertical

Correct Marks : 1 Wrong Marks : 0.25

निम्नलिखित प्रश्न में, चार विकल्पों में से, उस विकल्प का चयन करें जो दिए गए मुहावरे के लिए सही अर्थ वाला विकल्प है।

आस्तीन का साँप

Options :

- ✔ कपटी मित्र
- ✘ साँप पालना
- ✘ हानि होना
- ✘ बहाने बनाना

Question Number : 190 Question Id : 99836718091 Question Type : MCQ Option Shuffling : Yes Display Question Number : Yes  
Single Line Question Option : No Option Orientation : Vertical

**Correct Marks : 1 Wrong Marks : 0.25**

निम्नलिखित प्रश्न में, चार विकल्पों में से, उस विकल्प का चयन करें जो दिए गए मुहावरे के लिए सही अर्थ वाला विकल्प है  
आस्तीन का साँप

**Options :**

1. ✓ कपटी मित्र
2. ✗ साँप पालना
3. ✗ हानि होना
4. ✗ बहाने बनाना

**Question Number : 191 Question Id : 99836718092 Question Type : MCQ Option Shuffling : Yes Display Question Number : Yes  
Single Line Question Option : No Option Orientation : Vertical**

**Correct Marks : 1 Wrong Marks : 0.25**

निम्नलिखित प्रश्न में, चार विकल्पों में से, उस विकल्प का चयन करें जो दिए गए मुहावरे के लिए सही अर्थ वाला विकल्प है

कलेजा छलनी होना

**Options :**

1. ✗ असर न होना
2. ✓ बहुत दुखी होना
3. ✗ मन में शांति
4. ✗ सब बाहर आ जाना

**Question Number : 191 Question Id : 99836718092 Question Type : MCQ Option Shuffling : Yes Display Question Number : Yes  
Single Line Question Option : No Option Orientation : Vertical**

**Correct Marks : 1 Wrong Marks : 0.25**

निम्नलिखित प्रश्न में, चार विकल्पों में से, उस विकल्प का चयन करें जो दिए गए मुहावरे के लिए सही अर्थ वाला विकल्प है

कलेजा छलनी होना

**Options :**

1. ✗ असर न होना
2. ✓ बहुत दुखी होना
3. ✗ मन में शांति
4. ✗ सब बाहर आ जाना

**Question Number : 192 Question Id : 99836718093 Question Type : MCQ Option Shuffling : Yes Display Question Number : Yes  
Single Line Question Option : No Option Orientation : Vertical**

**Correct Marks : 1 Wrong Marks : 0.25**

निम्नलिखित प्रश्न में, चार विकल्पों में से, उस विकल्प का चयन करें जो दिए गए मुहावरे के लिए सही अर्थ वाला विकल्प है

गागर में सागर भरना

**Options :**

1. ✗ ठूस-ठूस कर भरना
2. ✗ सब हथिया लेना
3. ✓ थोड़े में बहुत कहना
4. ✗ नष्ट-भ्रष्ट करना

**Question Number : 192 Question Id : 99836718093 Question Type : MCQ Option Shuffling : Yes Display Question Number : Yes  
Single Line Question Option : No Option Orientation : Vertical**

**Correct Marks : 1 Wrong Marks : 0.25**



निम्नलिखित प्रश्न में, चार विकल्पों में से, उस विकल्प का चयन करें जो दिए गए मुहावरे के लिए सही अर्थ वाला विकल्प है।

गागर में सागर भरना

Options :

1. ✘ ठूस-ठूस कर भरना
2. ✘ सब हथिया लेना
3. ✔ थोड़े में बहुत कहना
4. ✘ नष्ट-भष्ट करना

Question Number : 193 Question Id : 99836718094 Question Type : MCQ Option Shuffling : Yes Display Question Number : Yes  
Single Line Question Option : No Option Orientation : Vertical

Correct Marks : 1 Wrong Marks : 0.25

निम्नलिखित प्रश्न में, चार विकल्पों में से, उस विकल्प का चयन करें जो दी गई लोकोक्ति के लिए सही अर्थ वाला विकल्प है।

मुँह में राम बगल में छुरी

Options :

1. ✘ राम-नाम जपना
2. ✘ जो मिल गया वही बहुत
3. ✘ अपनी सुरक्षा स्वयं करना
4. ✔ ऊपर से मित्रता अंदर से शत्रुता

Question Number : 193 Question Id : 99836718094 Question Type : MCQ Option Shuffling : Yes Display Question Number : Yes  
Single Line Question Option : No Option Orientation : Vertical

Correct Marks : 1 Wrong Marks : 0.25

निम्नलिखित प्रश्न में, चार विकल्पों में से, उस विकल्प का चयन करें जो दी गई लोकोक्ति के लिए सही अर्थ वाला विकल्प है।

मुँह में राम बगल में छुरी

Options :

1. ✘ राम-नाम जपना
2. ✘ जो मिल गया वही बहुत
3. ✘ अपनी सुरक्षा स्वयं करना
4. ✔ ऊपर से मित्रता अंदर से शत्रुता

Question Number : 194 Question Id : 99836718095 Question Type : MCQ Option Shuffling : Yes Display Question Number : Yes  
Single Line Question Option : No Option Orientation : Vertical

Correct Marks : 1 Wrong Marks : 0.25

निम्नलिखित प्रश्न में, चार विकल्पों में से, उस विकल्प का चयन करें जो दी गई लोकोक्ति के लिए सही अर्थ वाला विकल्प है।

एक तो करेला दूजे नीम चढ़ा

Options :

1. ✘ वृद्धि करना
2. ✘ विश्वासघात करना
3. ✔ अवगुण में और वृद्धि होना
4. ✘ सब एक जैसे बुरे

Question Number : 194 Question Id : 99836718095 Question Type : MCQ Option Shuffling : Yes Display Question Number : Yes  
Single Line Question Option : No Option Orientation : Vertical

Correct Marks : 1 Wrong Marks : 0.25

निम्नलिखित प्रश्न में, चार विकल्पों में से, उस विकल्प का चयन करें जो दी गई लोकोक्ति के लिए सही अर्थ वाला विकल्प है।

एक तो करेला दूजे नीम चढ़ा

Options :

- ❌ वृद्धि करना
- ❌ विश्वासघात करना
- ✅ अवगुण में और वृद्धि होना
- ❌ सब एक जैसे बुरे

Question Number : 195 Question Id : 99836718096 Question Type : MCQ Option Shuffling : Yes Display Question Number : Yes  
Single Line Question Option : No Option Orientation : Vertical

Correct Marks : 1 Wrong Marks : 0.25

निम्नलिखित प्रश्न में, चार विकल्पों में से, उस सही विकल्प का चयन करें जो दी गई लोकोक्ति के लिए सही अर्थ वाला विकल्प है।

खिसियानी बिल्ली खम्भा नोचे

Options :

- ❌ गुस्सा दिलाना
- ✅ असफल होने पर दुसरे पर क्रोध करना
- ❌ बिलकुल अनपढ़
- ❌ काम बिगाड़ना

Question Number : 195 Question Id : 99836718096 Question Type : MCQ Option Shuffling : Yes Display Question Number : Yes  
Single Line Question Option : No Option Orientation : Vertical

Correct Marks : 1 Wrong Marks : 0.25

निम्नलिखित प्रश्न में, चार विकल्पों में से, उस सही विकल्प का चयन करें जो दी गई लोकोक्ति के लिए सही अर्थ वाला विकल्प है।

खिसियानी बिल्ली खम्भा नोचे

Options :

- ❌ गुस्सा दिलाना
- ✅ असफल होने पर दुसरे पर क्रोध करना
- ❌ बिलकुल अनपढ़
- ❌ काम बिगाड़ना

Sub-Section Number: 2  
Sub-Section Id: 998367970  
Question Shuffling Allowed : Yes

Question Id : 99836718097 Question Type : COMPREHENSION Sub Question Shuffling Allowed : Yes Group Comprehension  
Questions : No

Question Numbers : (196 to 200)

Question Label : Comprehension

नीचे दिए गए गद्यांश को ध्यानपूर्वक पढ़ें और दिए गए प्रश्न का सर्वोत्तम उत्तर चुनें।

अच्छे-खासे यूनिवर्सिटी के प्रोफेसरों को लजा दे, ऐसा इल्म और तेज दिमाग है इस स्कूल मास्टर का, पर उस असामान्य दिमाग का परिचय अपने-आप नहीं मिलेगा। बहुत उकसाए कोई, तभी मिलेगा नहीं, उन्हें अपने इल्म के प्रदर्शन में रस्ती भर भी रूचि नहीं। अपने जमाने में हॉकी के बेहतरीन खिलाड़ी रह चुके वे, आज भी उसी युवकोचित उत्साह के साथ घंटों मैच देखते हैं—पूरे तादात्म्य और 'पैशन' के साथ। मैं इंग्लैंड जा रहा हूँ और एक वेल्श मित्र के यहाँ ठहरूँगा—यह पता चलने पर उन्होंने वेल्स लोगों के इतिहास और सांस्कृतिक विशेषताओं के बारे में ऐसी-ऐसी बातें बताईं कि मैं दंग रह गया। केल्टिक लिटरेचर के बारे में उन्हें वह सब पता था, जो कुमाऊँ विश्वविद्यालय के अंग्रेज़ी विभाग का अध्यक्ष भी न जानता होगा। कब पढ़ा होगा उन्होंने यह सब! और इस तरह की समझ सिर्फ पढ़ने से नहीं आती, गुनने से आती है। जाने किस जमाने के बी. ए. भर तो हैं वो घर की हालत अच्छी होती, एम. ए. कर पाते तो किसी यूनिवर्सिटी में प्रोफेसर होते। मगर... क्या हुआ होता, यह वे शायद खुद भी नहीं सोचते। किसी तरह की शिकायत या कुंठा उनके भीतर नहीं। लोग मजाक उड़ाते हैं उनका—इसकी भी उन्हें कोई चिंता नहीं।

Sub questions

Question Number : 196 Question Id : 99836718098 Question Type : MCQ Option Shuffling : Yes Display Question Number : Yes  
Single Line Question Option : No Option Orientation : Vertical

Correct Marks : 1 Wrong Marks : 0.25

स्कूल मास्टर का दिमाग कैसा था?

Options :

1. ✘ अपने-आप में बेहतर
2. ✘ शहर के लोगों से भी बेहतर
3. ✔ यूनिवर्सिटी के प्रोफेसरों से भी बेहतर
4. ✘ अनेक कलाओं से भरा हुआ

Question Number : 197 Question Id : 99836718099 Question Type : MCQ Option Shuffling : Yes Display Question Number : Yes  
Single Line Question Option : No Option Orientation : Vertical

Correct Marks : 1 Wrong Marks : 0.25

मास्टर जी के बौद्धिक स्तर का परिचय क्यों नहीं मिल पाता था?

Options :

1. ✘ कोई उन्हें उकसाता नहीं था
2. ✔ ज्ञान प्रदर्शन में कोई रुचि नहीं थी
3. ✘ ज्ञान प्रदर्शन के अवसर नहीं मिल पाते
4. ✘ लोगों में आपसी ज्ञान न होने के कारण

Question Number : 198 Question Id : 99836718100 Question Type : MCQ Option Shuffling : Yes Display Question Number : Yes  
Single Line Question Option : No Option Orientation : Vertical

Correct Marks : 1 Wrong Marks : 0.25

स्कूल शिक्षक को किस बात की चिंता नहीं थी?

Options :

1. ✔ लोग उनका मज़ाक उड़ाते हैं
2. ✘ लोग उनकी बातें करते हैं
3. ✘ लोग उन पर टिप्पणी करते हैं
4. ✘ लोग उनका आदर-सम्मान नहीं करते हैं

Question Number : 199 Question Id : 99836718101 Question Type : MCQ Option Shuffling : Yes Display Question Number : Yes  
Single Line Question Option : No Option Orientation : Vertical

Correct Marks : 1 Wrong Marks : 0.25

इनमें से कौन - सा विवेक शब्द का सही अर्थ है?

Options :

1. ✘ सब-कुछ पता होना
2. ✘ किसी को निर्णय देना
3. ✔ सही-गलत का निर्णय कर सकने की क्षमता
4. ✘ सही-गलत का निर्णय न ले पाना

Question Number : 200 Question Id : 99836718102 Question Type : MCQ Option Shuffling : Yes Display Question Number : Yes  
Single Line Question Option : No Option Orientation : Vertical

Correct Marks : 1 Wrong Marks : 0.25

इस अनुच्छेद का कोई उपयुक्त शीर्षक-

Options :

1. ✘ अनुभवी व्यक्ति
2. ✘ बुद्धिमान शिक्षक
3. ✔ बेबाक स्कूल मास्टर
4. ✘ अनेक कलाओं से भरपूर

Question Id : 99836718097 Question Type : COMPREHENSION Sub Question Shuffling Allowed : Yes Group Comprehension Questions : No

Question Numbers : (196 to 200)

Question Label : Comprehension

नीचे दिए गए गद्यांश को ध्यानपूर्वक पढ़ें और दिए गए प्रश्न का सर्वोत्तम उत्तर चुनें

अच्छे-खासे यूनिवर्सिटी के प्रोफेसरो को लजा दे, ऐसा इल्म और तेज दिमाग है इस स्कूल मास्टर का, पर उस असामान्य दिमाग का परिचय अपने-आप नहीं मिलेगा। बहुत उकसाए कोई, तभी मिलेगा नहीं, उन्हें अपने इल्म के प्रदर्शन में रती भर भी रूचि नहीं। अपने जमाने में हॉकी के बेहतरीन खिलाड़ी रह चुके वे, आज भी उसी युवकोचित उत्साह के साथ घंटों मैच देखते हैं—पूरे तादात्म्य और 'पैशन' के साथ। मैं इंग्लैंड जा रहा हूँ और एक वेल्श मित्र के यहाँ ठहरूँगा—यह पता चलने पर उन्होंने वेल्स लोगों के इतिहास और सांस्कृतिक विशेषताओं के बारे में ऐसी-ऐसी बातें बताईं कि मैं दंग रह गया। केल्टिक लिटरेचर के बारे में उन्हें वह सब पता था, जो कुमाऊँ विश्वविद्यालय के अंग्रेज़ी विभाग का अध्यक्ष भी न जानता होगा। कब पढ़ा होगा उन्होंने यह सब। और इस तरह की समझ सिर्फ पढ़ने से नहीं आती, गुनने से आती है। जाने किस जमाने के बी. ए. भर तो हैं वो घर की हालत अच्छी होती, एम. ए. कर पाते तो किसी यूनिवर्सिटी में प्रोफेसर होते मगर... क्या हुआ होता, यह वे शायद खुद भी नहीं सोचते। किसी तरह की शिकायत या कुंठा उनके भीतर नहीं। लोग मजाक उड़ाते हैं उनका—इसकी भी उन्हें कोई चिंता नहीं।

Sub questions

Question Number : 196 Question Id : 99836718098 Question Type : MCQ Option Shuffling : Yes Display Question Number : Yes Single Line Question Option : No Option Orientation : Vertical

Correct Marks : 1 Wrong Marks : 0.25

स्कूल मास्टर का दिमाग कैसा था?

Options :

1. ✘ अपने-आप में बेहतर
2. ✘ शहर के लोगों से भी बेहतर
3. ✔ यूनिवर्सिटी के प्रोफेसरो से भी बेहतर
4. ✘ अनेक कलाओं से भरा हुआ

Question Number : 197 Question Id : 99836718099 Question Type : MCQ Option Shuffling : Yes Display Question Number : Yes Single Line Question Option : No Option Orientation : Vertical

Correct Marks : 1 Wrong Marks : 0.25

मास्टर जी के बौद्धिक स्तर का परिचय क्यों नहीं मिल पाता था?

Options :

1. ✘ कोई उन्हें उकसाता नहीं था
2. ✔ ज्ञान प्रदर्शन में कोई रूचि नहीं थी
3. ✘ ज्ञान प्रदर्शन के अवसर नहीं मिल पाते
4. ✘ लोगों में आपसी ज्ञान न होने के कारण

Question Number : 198 Question Id : 99836718100 Question Type : MCQ Option Shuffling : Yes Display Question Number : Yes Single Line Question Option : No Option Orientation : Vertical

Correct Marks : 1 Wrong Marks : 0.25

स्कूल शिक्षक को किस बात की चिंता नहीं थी?

Options :

1. ✔ लोग उनका मजाक उड़ाते हैं
2. ✘ लोग उनकी बातें करते हैं
3. ✘ लोग उन पर टिप्पणी करते हैं
4. ✘ लोग उनका आदर-सम्मान नहीं करते हैं

Question Number : 199 Question Id : 99836718101 Question Type : MCQ Option Shuffling : Yes Display Question Number : Yes Single Line Question Option : No Option Orientation : Vertical

Correct Marks : 1 Wrong Marks : 0.25

इनमें से कौन - सा विवेक शब्द का सही अर्थ है?

Options :

1. ✘ सब-कुछ पता होना

2. ✘ किसी को निर्णय देना
3. ✔ सही-गलत का निर्णय कर सकने की क्षमता
4. ✘ सही-गलत का निर्णय न ले पाना

Question Number : 200 Question Id : 99836718102 Question Type : MCQ Option Shuffling : Yes Display Question Number : Yes  
Single Line Question Option : No Option Orientation : Vertical

Correct Marks : 1 Wrong Marks : 0.25

इस अनुच्छेद का कोई उपयुक्त शीर्षक-

Options :

1. ✘ अनुभवी व्यक्ति
2. ✘ बुद्धिमान शिक्षक
3. ✔ बेबाक स्कूल मास्टर
4. ✘ अनेक कलाओं से भरपूर