

Education Consultant India Ltd.

Notations :

- 1.Options shown in green color and with ✓ icon are correct.
- 2.Options shown in red color and with ✗ icon are incorrect.

Question Paper Name:	Lower Division Clerk 25th August 2019 S3
Subject Name:	LOWER DIVISION CLERK
Creation Date:	2019-08-26 11:12:58
Duration:	120
Total Marks:	200
Display Marks:	Yes
Share Answer Key With Delivery Engine:	No
Actual Answer Key:	Yes
Calculator:	None
Magnifying Glass Required?:	No
Ruler Required?:	No
Eraser Required?:	No
Scratch Pad Required?:	No
Rough Sketch/Notepad Required?:	No
Protractor Required?:	No
Show Watermark on Console?:	Yes
Highlighter:	No
Auto Save on Console?:	No

Mental Ability 1

Group Number :	1
Group Id :	96623194
Group Maximum Duration :	0
Group Minimum Duration :	0
Revisit allowed for view? :	No
Revisit allowed for edit? :	No
Break time:	0
Group Marks:	20
Revisit allowed for group Instructions? :	Yes
Maximum Instruction Time:	0
Minimum Instruction Time:	0

Mental Ability 1

Section Id :	966231209
Section Number :	1
Section type :	Online
Mandatory or Optional:	Mandatory
Number of Questions:	20
Number of Questions to be attempted:	20
Section Marks:	20

Display Number Panel: Yes
Group All Questions: No

Sub-Section Number: 1
Sub-Section Id: 966231223
Question Shuffling Allowed : Yes

Question Number : 1 Question Id : 9662316015 Question Type : MCQ Option Shuffling : Yes Display Question Number : Yes
Single Line Question Option : No Option Orientation : Vertical

Correct Marks : 1 Wrong Marks : 0.25

Find the wrong term in the given letter series.

XV, TQ, OL, ID, BV

Options :

1. ✘ XV
2. ✘ BV
3. ✔ OL
4. ✘ ID

Question Number : 1 Question Id : 9662316015 Question Type : MCQ Option Shuffling : Yes Display Question Number : Yes
Single Line Question Option : No Option Orientation : Vertical

Correct Marks : 1 Wrong Marks : 0.25

दिए गए अक्षर श्रृंखला में गलत अक्षर खोजें

XV, TQ, OL, ID, BV

Options :

1. ✘ XV
2. ✘ BV
3. ✔ OL
4. ✘ ID

Question Number : 2 Question Id : 9662316016 Question Type : MCQ Option Shuffling : Yes Display Question Number : Yes
Single Line Question Option : No Option Orientation : Vertical

Correct Marks : 1 Wrong Marks : 0.25

Find the missing term in the given series.

B, D, ?, P, F, L

Options :

1. ✘ G
2. ✘ I
3. ✔ H
4. ✘ J

Question Number : 2 Question Id : 9662316016 Question Type : MCQ Option Shuffling : Yes Display Question Number : Yes
Single Line Question Option : No Option Orientation : Vertical

Correct Marks : 1 Wrong Marks : 0.25

दी गई श्रृंखला में लुप्त पद को ज्ञात करें

B, D, ?, P, F, L

Options :

1. ✘ G
2. ✘ I
3. ✔ H
4. ✘ J

Question Number : 3 Question Id : 9662316017 Question Type : MCQ Option Shuffling : Yes Display Question Number : Yes
Single Line Question Option : No Option Orientation : Vertical

Correct Marks : 1 Wrong Marks : 0.25

Find the next term of the following series.

A1, F11, K121, P1331, _____

Options :

1. ✘ U1331
2. ✘ V1331
3. ✔ U14641
4. ✘ V14641

Question Number : 3 Question Id : 9662316017 Question Type : MCQ Option Shuffling : Yes Display Question Number : Yes
Single Line Question Option : No Option Orientation : Vertical

Correct Marks : 1 Wrong Marks : 0.25

निम्नलिखित श्रृंखला का अगला पद ज्ञात करें

A1, F11, K121, P1331, _____

Options :

1. ✘ U1331
2. ✘ V1331
3. ✔ U14641
4. ✘ V14641

Question Number : 4 Question Id : 9662316018 Question Type : MCQ Option Shuffling : Yes Display Question Number : Yes
Single Line Question Option : No Option Orientation : Vertical

Correct Marks : 1 Wrong Marks : 0.25

Select the option that is related to the third term on the same basis as the second term is related to the first term.

Beer : Glass :: Water : ?

Options :

1. ✘ Tank
2. ✔ Bottle
3. ✘ Well
4. ✘ River

Question Number : 4 Question Id : 9662316018 Question Type : MCQ Option Shuffling : Yes Display Question Number : Yes
Single Line Question Option : No Option Orientation : Vertical

Correct Marks : 1 Wrong Marks : 0.25

उस विकल्प का चयन करें जो तीसरे पद से उसी प्रकार से संबंधित है जिस प्रकार से पहला पद दूसरे पद से संबंधित है।

बीयर : ग्लास :: पानी : ?

Options :

1. ✘ टंकी

2. ✓ बोटल
3. ✗ कुंआ
4. ✗ नदी

Question Number : 5 Question Id : 9662316019 Question Type : MCQ Option Shuffling : Yes Display Question Number : Yes
Single Line Question Option : No Option Orientation : Vertical

Correct Marks : 1 Wrong Marks : 0.25

Out of the given options, three are similar in a certain manner. However, one option is NOT like the other three. Select the option which is different from the rest.

Options :

1. ✓ Hoot
2. ✗ Neigh
3. ✗ Roar
4. ✗ Bleat

Question Number : 5 Question Id : 9662316019 Question Type : MCQ Option Shuffling : Yes Display Question Number : Yes
Single Line Question Option : No Option Orientation : Vertical

Correct Marks : 1 Wrong Marks : 0.25

दिए गए विकल्पों में से, तीन एक निश्चित तरीके से समान हैं हालाँकि, एक विकल्प अन्य तीन की तरह नहीं है। उस विकल्प का चयन करें जो बाकी से अलग है।

Options :

1. ✓ उल्लू की बोली
2. ✗ हिनहिनाना
3. ✗ गर्जन
4. ✗ मिमियाहट

Question Number : 6 Question Id : 9662316020 Question Type : MCQ Option Shuffling : Yes Display Question Number : Yes
Single Line Question Option : No Option Orientation : Vertical

Correct Marks : 1 Wrong Marks : 0.25

Select the option that is related to the third term on the same basis as the second term is related to the first term.

Badminton : Court :: Boxing : ?

Options :

1. ✗ Square
2. ✓ Ring
3. ✗ Arena
4. ✗ Course

Question Number : 6 Question Id : 9662316020 Question Type : MCQ Option Shuffling : Yes Display Question Number : Yes
Single Line Question Option : No Option Orientation : Vertical

Correct Marks : 1 Wrong Marks : 0.25

उस विकल्प का चयन करें जो तीसरे पद से उसी प्रकार से संबंधित है जिस प्रकार से पहला पद दूसरे पद से संबंधित है।

बैडमिंटन : कोर्ट :: बॉक्सिंग : ?

Options :

1. ✗ वर्ग
2. ✓ अंगूठी
3. ✗ अखाड़ा
4. ✗ कोर्स

Question Number : 7 Question Id : 9662316021 Question Type : MCQ Option Shuffling : Yes Display Question Number : Yes
Single Line Question Option : No Option Orientation : Vertical

Correct Marks : 1 Wrong Marks : 0.25

Select the set of words that are analogous to the given set of words.

Gun : Bullet : Gunpowder

Options :

1. ✓ AC : Compressor : Coolant
2. ✗ Earphones : Music : Ear Pad
3. ✗ Remote : TV : Battery
4. ✗ Cloth : Shirt : Jeans

Question Number : 7 Question Id : 9662316021 Question Type : MCQ Option Shuffling : Yes Display Question Number : Yes
Single Line Question Option : No Option Orientation : Vertical

Correct Marks : 1 Wrong Marks : 0.25

उन शब्दों के सेट का चयन करें जो शब्दों के दिए गए सेट के अनुरूप हैं।

बंदूक : गोली : बारूद

Options :

1. ✓ एसी : कंप्रेसर : शीतलक
2. ✗ इयरफ़ोन : संगीत : इयर पैड
3. ✗ रिमोट : टीवी : बैटरी
4. ✗ कपड़ा : शर्ट : जीन्स

Question Number : 8 Question Id : 9662316022 Question Type : MCQ Option Shuffling : Yes Display Question Number : Yes
Single Line Question Option : No Option Orientation : Vertical

Correct Marks : 1 Wrong Marks : 0.25

Which of the given options can be a part of the group to which the given words belong?

Cheetah, Puma, Jaguar

Options :

1. ✗ Horse
2. ✗ Ox
3. ✓ Tiger
4. ✗ Bull

Question Number : 8 Question Id : 9662316022 Question Type : MCQ Option Shuffling : Yes Display Question Number : Yes
Single Line Question Option : No Option Orientation : Vertical

Correct Marks : 1 Wrong Marks : 0.25

दिए गए विकल्पों में से कौन-सा समूह उस समूह का हिस्सा हो सकता है जिसमें दिए गए शब्द हैं?

चीता, प्यूमा, जगुआर

Options :

1. ✗ घोड़ा
2. ✗ बैल
3. ✓ बाघ
4. ✗ सांड

Question Number : 9 Question Id : 9662316023 Question Type : MCQ Option Shuffling : Yes Display Question Number : Yes
Single Line Question Option : No Option Orientation : Vertical

Correct Marks : 1 Wrong Marks : 0.25

Find the pair of words that is analogous to the given pair.

Ink : Inkpot

Options :

- ✓ Water : Bottle
- ✗ Oil : Refinery
- ✗ Oil : Field
- ✗ Water : Factory

Question Number : 9 Question Id : 9662316023 Question Type : MCQ Option Shuffling : Yes Display Question Number : Yes
Single Line Question Option : No Option Orientation : Vertical

Correct Marks : 1 Wrong Marks : 0.25

उन शब्दों की जोड़ी को ज्ञात करें जो दी गई जोड़ी के अनुरूप है।

स्याही : दवात

Options :

- ✓ पानी : बोतल
- ✗ तेल : रिफाइनरी
- ✗ तेल : खेत
- ✗ पानी : फैक्टरी

Question Number : 10 Question Id : 9662316024 Question Type : MCQ Option Shuffling : Yes Display Question Number : Yes
Single Line Question Option : No Option Orientation : Vertical

Correct Marks : 1 Wrong Marks : 0.25

If LION = 12.50 and TIGER = 11.80, then how much is PANDA equal to?

Options :

- ✗ 3.6
- ✓ 7.2
- ✗ 4.8
- ✗ 14.4

Question Number : 10 Question Id : 9662316024 Question Type : MCQ Option Shuffling : Yes Display Question Number : Yes
Single Line Question Option : No Option Orientation : Vertical

Correct Marks : 1 Wrong Marks : 0.25

यदि LION = 12.50 और TIGER = 11.80 है, तो PANDA कितने के बराबर है?

Options :

- ✗ 3.6
- ✓ 7.2
- ✗ 4.8
- ✗ 14.4

Question Number : 11 Question Id : 9662316025 Question Type : MCQ Option Shuffling : Yes Display Question Number : Yes
Single Line Question Option : No Option Orientation : Vertical

Correct Marks : 1 Wrong Marks : 0.25

एक निश्चित कोड में, 'PLAY' को 1612125 रूप में लिखा गया है, 'TIRED' को 2091854 के रूप में लिखा गया है। 2652181 के लिए कोड है?

Options :

- ✗ YEBRA
- ✗ ZEBSA

3. ✓ ZEBRA

4. ✗ YEBSA

Question Number : 11 Question Id : 9662316025 Question Type : MCQ Option Shuffling : Yes Display Question Number : Yes
Single Line Question Option : No Option Orientation : Vertical

Correct Marks : 1 Wrong Marks : 0.25

In a certain code, 'PLAY' is written as 1612125, 'TIRED' is written as 2091854. 2652181 is the code for:

Options :

1. ✗ YEERA

2. ✗ ZEBSA

3. ✓ ZEBRA

4. ✗ YEBSA

Question Number : 12 Question Id : 9662316026 Question Type : MCQ Option Shuffling : Yes Display Question Number : Yes
Single Line Question Option : No Option Orientation : Vertical

Correct Marks : 1 Wrong Marks : 0.25

If EYES is written as 10, 50, 10, 38 and NOSE is written as 28, 30, 38, 10, then how is LIPS written as?

Options :

1. ✓ 24, 18, 32, 38

2. ✗ 24, 20, 32, 38

3. ✗ 22, 18, 32, 38

4. ✗ 24, 18, 30, 38

Question Number : 12 Question Id : 9662316026 Question Type : MCQ Option Shuffling : Yes Display Question Number : Yes
Single Line Question Option : No Option Orientation : Vertical

Correct Marks : 1 Wrong Marks : 0.25

यदि EYES को 10, 50, 10, 38 और NOSE को 28, 30, 38, 10 के रूप में लिखा गया है, तो LIPS को कैसे लिखा जाएगा?

Options :

1. ✓ 24, 18, 32, 38

2. ✗ 24, 20, 32, 38

3. ✗ 22, 18, 32, 38

4. ✗ 24, 18, 30, 38

Question Number : 13 Question Id : 9662316027 Question Type : MCQ Option Shuffling : Yes Display Question Number : Yes
Single Line Question Option : No Option Orientation : Vertical

Correct Marks : 1 Wrong Marks : 0.25

Six people A, B, C, D, E and F are watching the sunset sitting side by side. B sits in between E and D. C is to the immediate right of D and sits in one corner. A is to the left of E whereas F sits in one corner. Who is sitting in the 3rd position from left?

Options :

1. ✗ A

2. ✓ E

3. ✗ B

4. ✗ D

Question Number : 13 Question Id : 9662316027 Question Type : MCQ Option Shuffling : Yes Display Question Number : Yes
Single Line Question Option : No Option Orientation : Vertical

Correct Marks : 1 Wrong Marks : 0.25

छह लोग A, B, C, D, E और F सूर्यास्त को साथ साथ बैठकर देख रहे हैं। B, E और D के बीच में बैठा है। C, D के एकदम दाईं है और एक कोने में बैठा है। A, E के बाईं ओर है जबकि F दूसरे कोने में बैठा है। बाएं से तीसरे स्थान पर कौन बैठा है?

Options :

1. ✘ A
2. ✔ E
3. ✘ B
4. ✘ D

Question Number : 14 Question Id : 9662316028 Question Type : MCQ Option Shuffling : Yes Display Question Number : Yes
Single Line Question Option : No Option Orientation : Vertical

Correct Marks : 1 Wrong Marks : 0.25

A boy walks 60 m North-East and then walks 100 m towards North-West. He then walks 110 m towards South-East and finally 60 m towards South-West. How far and in which direction is he from his starting point?

Options :

1. ✘ 10 m in North-East direction
2. ✘ 210 m in North-East direction
3. ✔ 10 m in South-East direction
4. ✘ 210 m in South-East direction

Question Number : 14 Question Id : 9662316028 Question Type : MCQ Option Shuffling : Yes Display Question Number : Yes
Single Line Question Option : No Option Orientation : Vertical

Correct Marks : 1 Wrong Marks : 0.25

एक लड़का 60 m उत्तर-पूर्व की ओर चलता है और फिर उत्तर-पश्चिम की ओर 100 m चलता है। वह फिर दक्षिण-पूर्व की ओर 110 m और अंत में दक्षिण-पश्चिम की ओर 60 m चलता है। वह अपने प्रारंभिक बिंदु के संदर्भ में कितनी दूर और किस दिशा में है?

Options :

1. ✘ उत्तर-पूर्व दिशा में 10 m
2. ✘ उत्तर-पूर्व दिशा में 210 m
3. ✔ दक्षिण-पूर्व दिशा में 10 m
4. ✘ दक्षिण-पूर्व दिशा में 210 m

Question Number : 15 Question Id : 9662316029 Question Type : MCQ Option Shuffling : Yes Display Question Number : Yes
Single Line Question Option : No Option Orientation : Vertical

Correct Marks : 1 Wrong Marks : 0.25

A man says to a woman, you are the daughter of my wife's mother-in-law. How is the woman related to him?

Options :

1. ✔ Sister
2. ✘ Wife
3. ✘ Daughter
4. ✘ Mother

Question Number : 15 Question Id : 9662316029 Question Type : MCQ Option Shuffling : Yes Display Question Number : Yes
Single Line Question Option : No Option Orientation : Vertical

Correct Marks : 1 Wrong Marks : 0.25

एक आदमी एक महिला से कहता है, तुम मेरी पत्नी की सास की बेटी हो। स्त्री उससे किस प्रकार संबंधित है?

Options :

1. ✔ बहन
2. ✘ पत्नी
3. ✘ बेटी
4. ✘ माता

Question Number : 16 Question Id : 9662316030 Question Type : MCQ Option Shuffling : Yes Display Question Number : Yes
Single Line Question Option : No Option Orientation : Vertical

Correct Marks : 1 Wrong Marks : 0.25

A man's parents have 2 sons and 1 daughter. He being the eldest child looks at a picture of a person and says, he is the brother of my sister's father's wife's younger son. Who is the person in the picture?

Options :

1. ✓ Himself
2. ✗ Brother
3. ✗ Father
4. ✗ Son

Question Number : 16 Question Id : 9662316030 Question Type : MCQ Option Shuffling : Yes Display Question Number : Yes
Single Line Question Option : No Option Orientation : Vertical

Correct Marks : 1 Wrong Marks : 0.25

एक आदमी के माता-पिता के 2 बेटे और 1 बेटी हैं। वह सबसे बड़ा बच्चा होने के नाते एक व्यक्ति की तस्वीर को देखता है और कहता है, वह मेरी बहन के पिता की पत्नी के छोटे बेटे का भाई है। चित्र में व्यक्ति कौन है?

Options :

1. ✓ स्वयं
2. ✗ भाई
3. ✗ पिता
4. ✗ बेटा

Question Number : 17 Question Id : 9662316031 Question Type : MCQ Option Shuffling : Yes Display Question Number : Yes
Single Line Question Option : No Option Orientation : Vertical

Correct Marks : 1 Wrong Marks : 0.25

A man says to another, your mother's only son is my son's mother's father-in-law. How is the man related to him?

Options :

1. ✓ Father
2. ✗ Uncle
3. ✗ Grandfather
4. ✗ Grandson

Question Number : 17 Question Id : 9662316031 Question Type : MCQ Option Shuffling : Yes Display Question Number : Yes
Single Line Question Option : No Option Orientation : Vertical

Correct Marks : 1 Wrong Marks : 0.25

एक आदमी दूसरे से कहता है, तुम्हारी माता का इकलौता बेटा मेरे बेटे की माता का ससुर है। उस आदमी का उससे क्या रिश्ता है?

Options :

1. ✓ पिता
2. ✗ चाचा/मामा
3. ✗ दादा/नाना
4. ✗ पोता/नवासा

Question Number : 18 Question Id : 9662316032 Question Type : MCQ Option Shuffling : Yes Display Question Number : Yes
Single Line Question Option : No Option Orientation : Vertical

Correct Marks : 1 Wrong Marks : 0.25

The statements below are followed by two conclusions labelled I and II . Assuming that the information in the statements is true, even if it appears to be at variance with reality, decide which conclusion(s) logically and definitely follow(s) from the information given in the statements.

Statements:

Some birds are animals.
Some flies are birds.

Conclusions:

I. Some flies are animals.
II. All animals are birds.

Options :

- ✘ Only conclusion I follows.
- ✘ Only conclusion II follows.
- ✘ Both conclusions I and II follow.
- ✔ Neither conclusion I nor II follows.

Question Number : 18 Question Id : 9662316032 Question Type : MCQ Option Shuffling : Yes Display Question Number : Yes
Single Line Question Option : No Option Orientation : Vertical

Correct Marks : 1 Wrong Marks : 0.25

नीचे दिए गए कथनों में I और II लेबल के दो निष्कर्ष दिए गए हैं। यह मानते हुए कि कथनों में दी गई जानकारी सत्य है, भले ही वह वास्तविकता से अलग प्रतीत हो, निर्णय लें कि कौन सा निष्कर्ष तार्किक रूप से दिया गया है और निश्चित रूप से कथनों में दी गई जानकारी का अनुसरण करता है।

कथन:

कुछ पक्षी पशु हैं।
कुछ मक्खियाँ पक्षी हैं।

निष्कर्ष:

I. कुछ मक्खियाँ पशु हैं।
II. सभी जानवर पक्षी हैं।

Options :

- ✘ केवल निष्कर्ष I अनुसरण करता है।
- ✘ केवल निष्कर्ष II अनुसरण करता है।
- ✘ दोनों निष्कर्ष I और II अनुसरण करते हैं।
- ✔ ना तो निष्कर्ष I न ही II अनुसरण करते हैं।

Question Number : 19 Question Id : 9662316033 Question Type : MCQ Option Shuffling : Yes Display Question Number : Yes
Single Line Question Option : No Option Orientation : Vertical

Correct Marks : 1 Wrong Marks : 0.25

The statements below are followed by two assumptions labelled I and II . Assuming that the information in the statements is true, even if it appears to be at variance with reality, decide which assumption(s) is/are logically and definitely valid from the information given in the statements.

Statements:

Some wallets have money.
All purses are wallets.

Assumptions:

I. Rest of the wallets do not have money.
II. Some wallets are purses.

Options :

- ✘ Only assumption I is valid
- ✘ Only assumption II is valid
- ✔ Both assumptions are valid

4. ✖ Neither assumption is valid

Question Number : 19 Question Id : 9662316033 Question Type : MCQ Option Shuffling : Yes Display Question Number : Yes
Single Line Question Option : No Option Orientation : Vertical

Correct Marks : 1 Wrong Marks : 0.25

नीचे दिए गए कथनों में I और II लेबल वाली दो धारणाएं हैं। यह मानते हुए कि कथनों में दी गई जानकारी सत्य है, भले ही वह वास्तविकता से अलग प्रतीत हो, निर्णय लें कि कथन में दी गई जानकारी तार्किक रूप से और निश्चित रूप से मान्य है।

कथन:

कुछ वॉलेट में पैसे हैं।
सभी पर्स वॉलेट हैं।

धारणाएँ:

- I. बाकी वॉलेट में पैसे नहीं हैं।
- II. कुछ वॉलेट पर्स हैं।

Options :

1. ✖ केवल धारणा I मान्य है
2. ✖ केवल धारणा II ही मान्य है
3. ✔ दोनों धारणाएं मान्य हैं
4. ✖ कोई भी धारणाएं मान्य नहीं हैं

Question Number : 20 Question Id : 9662316034 Question Type : MCQ Option Shuffling : Yes Display Question Number : Yes
Single Line Question Option : No Option Orientation : Vertical

Correct Marks : 1 Wrong Marks : 0.25

Out of the given options, three are similar in a certain manner. However, one option is NOT like the other three. Select the option which is different from the rest.

Options :

1. ✖ 125
2. ✔ 100
3. ✖ 8
4. ✖ 343

Question Number : 20 Question Id : 9662316034 Question Type : MCQ Option Shuffling : Yes Display Question Number : Yes
Single Line Question Option : No Option Orientation : Vertical

Correct Marks : 1 Wrong Marks : 0.25

दिए गए विकल्पों में से, तीन एक निश्चित तरीके से समान हैं। हालाँकि, एक विकल्प अन्य तीन की तरह नहीं है। उस विकल्प का चयन करें जो बाकी से अलग है।

Options :

1. ✖ 125
2. ✔ 100
3. ✖ 8
4. ✖ 343

Mental Ability2

Group Number :	2
Group Id :	96623195
Group Maximum Duration :	0
Group Minimum Duration :	0
Revisit allowed for view? :	No
Revisit allowed for edit? :	No

Break time:	0
Group Marks:	20
Revisit allowed for group Instructions? :	Yes
Maximum Instruction Time:	0
Minimum Instruction Time:	0

Mental Ability2

Section Id :	966231210
Section Number :	1
Section type :	Online
Mandatory or Optional:	Mandatory
Number of Questions:	20
Number of Questions to be attempted:	20
Section Marks:	20
Display Number Panel:	Yes
Group All Questions:	No

Sub-Section Number:	1
Sub-Section Id:	966231224
Question Shuffling Allowed :	Yes

Question Number : 21 Question Id : 9662316035 Question Type : MCQ Option Shuffling : Yes Display Question Number : Yes
Single Line Question Option : No Option Orientation : Vertical

Correct Marks : 1 Wrong Marks : 0.25

Out of the given number pairs, three are similar in a certain manner. However, one pair is NOT like the other three. Select the option which is different from the rest.

Options :

- ✘ 2, 9
- ✘ 3, 25
- ✘ 7, 81
- ✔ 9, 100

Question Number : 21 Question Id : 9662316035 Question Type : MCQ Option Shuffling : Yes Display Question Number : Yes
Single Line Question Option : No Option Orientation : Vertical

Correct Marks : 1 Wrong Marks : 0.25

दिए गए संख्या जोड़ियों में से, तीन एक निश्चित तरीके से समान हैं। हालाँकि, एक जोड़ी अन्य तीन की तरह नहीं है। उस जोड़ी का चयन करें जो बाकियों से अलग है।

Options :

- ✘ 2, 9
- ✘ 3, 25
- ✘ 7, 81
- ✔ 9, 100

Question Number : 22 Question Id : 9662316036 Question Type : MCQ Option Shuffling : Yes Display Question Number : Yes
Single Line Question Option : No Option Orientation : Vertical

Correct Marks : 1 Wrong Marks : 0.25

A number series is given here, only one number is INCORRECT in the series, find out the INCORRECT number.

48, 80, 120, 170, 224, 288

Options :

1. ✘ 80
2. ✘ 120
3. ✘ 224
4. ✔ 170

Question Number : 22 Question Id : 9662316036 Question Type : MCQ Option Shuffling : Yes Display Question Number : Yes
Single Line Question Option : No Option Orientation : Vertical

Correct Marks : 1 Wrong Marks : 0.25

यहाँ एक संख्या श्रृंखला दी गई है, श्रृंखला में केवल एक संख्या गलत है, गलत संख्या ज्ञात करें।

48, 80, 120, 170, 224, 288

Options :

1. ✘ 80
2. ✘ 120
3. ✘ 224
4. ✔ 170

Question Number : 23 Question Id : 9662316037 Question Type : MCQ Option Shuffling : Yes Display Question Number : Yes
Single Line Question Option : No Option Orientation : Vertical

Correct Marks : 1 Wrong Marks : 0.25

Which two signs should be interchanged to make the below equation mathematically correct?

$15 \times 10 + 30 \div 15 - 7 = 13$

Options :

1. ✘ $\times, +$
2. ✘ \times, \div
3. ✔ $+, \div$
4. ✘ $-, +$

Question Number : 23 Question Id : 9662316037 Question Type : MCQ Option Shuffling : Yes Display Question Number : Yes
Single Line Question Option : No Option Orientation : Vertical

Correct Marks : 1 Wrong Marks : 0.25

नीचे दिए गए समीकरण को गणितीय रूप से सही बनाने के लिए किन दो संकेतों का अदल बदल होना चाहिए?

$15 \times 10 + 30 \div 15 - 7 = 13$

Options :

1. ✘ $\times, +$
2. ✘ \times, \div
3. ✔ $+, \div$
4. ✘ $-, +$

Question Number : 24 Question Id : 9662316038 Question Type : MCQ Option Shuffling : Yes Display Question Number : Yes
Single Line Question Option : No Option Orientation : Vertical

Correct Marks : 1 Wrong Marks : 0.25

Find the missing number in the following number series.

2, 2, 4, 6, 10, ?, 26, 42, 68.

Options :

1. ✘ 14

2. ✓ 16

3. ✗ 18

4. ✗ 12

Question Number : 24 Question Id : 9662316038 Question Type : MCQ Option Shuffling : Yes Display Question Number : Yes
Single Line Question Option : No Option Orientation : Vertical

Correct Marks : 1 Wrong Marks : 0.25

निम्नलिखित संख्या श्रृंखला में लुप्त संख्या को ज्ञात करें

2, 2, 4, 6, 10, 7, 26, 42, 68

Options :

1. ✗ 14

2. ✓ 16

3. ✗ 18

4. ✗ 12

Question Number : 25 Question Id : 9662316039 Question Type : MCQ Option Shuffling : Yes Display Question Number : Yes
Single Line Question Option : No Option Orientation : Vertical

Correct Marks : 1 Wrong Marks : 0.25

Find the set of numbers that is similar to the given set.

(16, 32, 96)

Options :

1. ✗ (20, 60, 180)

2. ✗ (30, 60, 150)

3. ✗ (30, 45, 90)

4. ✓ (20, 40, 120)

Question Number : 25 Question Id : 9662316039 Question Type : MCQ Option Shuffling : Yes Display Question Number : Yes
Single Line Question Option : No Option Orientation : Vertical

Correct Marks : 1 Wrong Marks : 0.25

उन संख्याओं के समूह को ज्ञात करें जो दिए गए सेट के समान हैं

(16, 32, 96)

Options :

1. ✗ (20, 60, 180)

2. ✗ (30, 60, 150)

3. ✗ (30, 45, 90)

4. ✓ (20, 40, 120)

Question Number : 26 Question Id : 9662316040 Question Type : MCQ Option Shuffling : Yes Display Question Number : Yes
Single Line Question Option : No Option Orientation : Vertical

Correct Marks : 1 Wrong Marks : 0.25

Find the appropriate 4th term.

0.008 : 125 :: 0.0625 : ?

Options :

1. ✗ 25

2. ✗ 32

3. ✗ 250

4. ✓ 16

Question Number : 26 Question Id : 9662316040 Question Type : MCQ Option Shuffling : Yes Display Question Number : Yes
Single Line Question Option : No Option Orientation : Vertical

Correct Marks : 1 Wrong Marks : 0.25

उचित रूप से चौथा पद ज्ञात करें

0.008 : 125 :: 0.0625 : ?

Options :

1. ✗ 25
2. ✗ 32
3. ✗ 250
4. ✓ 16

Question Number : 27 Question Id : 9662316041 Question Type : MCQ Option Shuffling : Yes Display Question Number : Yes
Single Line Question Option : No Option Orientation : Vertical

Correct Marks : 1 Wrong Marks : 0.25

Choose the option that can appropriately replace the question mark (?).

$25^2 - 20^2$? $17^2 - 8^2$

Options :

1. ✓ =
2. ✗ <
3. ✗
4. ✗ >

Question Number : 27 Question Id : 9662316041 Question Type : MCQ Option Shuffling : Yes Display Question Number : Yes
Single Line Question Option : No Option Orientation : Vertical

Correct Marks : 1 Wrong Marks : 0.25

उस विकल्प का चयन करें जो उचित प्रश्न चिन्ह (?) की जगह ले सके।

$25^2 - 20^2$? $17^2 - 8^2$

Options :

1. ✓ =
2. ✗ <
3. ✗
4. ✗ >

Question Number : 28 Question Id : 9662316042 Question Type : MCQ Option Shuffling : Yes Display Question Number : Yes
Single Line Question Option : No Option Orientation : Vertical

Correct Marks : 1 Wrong Marks : 0.25

Select the term that will come next in the following series.

10, 10, 15, 30, 75, ?

Options :

1. ✗ 150
2. ✓ 225
3. ✗ 175
4. ✗ 300

Question Number : 28 Question Id : 9662316042 Question Type : MCQ Option Shuffling : Yes Display Question Number : Yes
Single Line Question Option : No Option Orientation : Vertical

Correct Marks : 1 Wrong Marks : 0.25

श्रृंखला में अगला आने वाला पद का चयन करें

10, 10, 15, 30, 75, ?

Options :

- ✘ 150
- ✔ 225
- ✘ 175
- ✘ 300

Question Number : 29 Question Id : 9662316043 Question Type : MCQ Option Shuffling : Yes Display Question Number : Yes
Single Line Question Option : No Option Orientation : Vertical

Correct Marks : 1 Wrong Marks : 0.25

Which two numbers should be interchanged to make the below equation mathematically correct?

$30 + 12 \div 4 \times 2 - 36 = 12$

Options :

- ✘ 30, 4
- ✘ 12, 2
- ✘ 2, 4
- ✔ 30, 36

Question Number : 29 Question Id : 9662316043 Question Type : MCQ Option Shuffling : Yes Display Question Number : Yes
Single Line Question Option : No Option Orientation : Vertical

Correct Marks : 1 Wrong Marks : 0.25

नीचे दिए गए समीकरण को गणितीय रूप से सही बनाने के लिए किन दो संख्याओं को परस्पर स्थानांतरित किया जाना चाहिए?

$30 + 12 \div 4 \times 2 - 36 = 12$

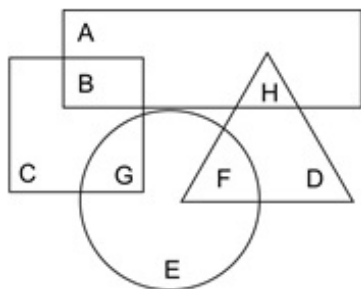
Options :

- ✘ 30, 4
- ✘ 12, 2
- ✘ 2, 4
- ✔ 30, 36

Question Number : 30 Question Id : 9662316044 Question Type : MCQ Option Shuffling : Yes Display Question Number : Yes
Single Line Question Option : No Option Orientation : Vertical

Correct Marks : 1 Wrong Marks : 0.25

In the following figure, square represents joggers, triangle represents lawyers, circle represents Indians and rectangle represents mothers. Which set of letters represents Indians who are lawyers?



Options :

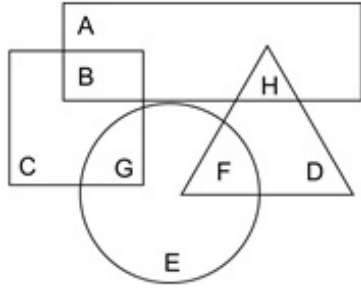
- ✘ G

- 2. ✘ B
- 3. ✘ H
- 4. ✔ F

Question Number : 30 Question Id : 9662316044 Question Type : MCQ Option Shuffling : Yes Display Question Number : Yes
 Single Line Question Option : No Option Orientation : Vertical

Correct Marks : 1 Wrong Marks : 0.25

निम्नलिखित आकृति में, वर्ग जॉर्जस को दर्शाता है, त्रिकोण वकीलों को दर्शाता है, वृत्त भारतीयों को दर्शाता है और आयत माताओं को दर्शाता है। अक्षरों का कौन सा सेट भारतीयों को दर्शाता है जो वकील हैं?



Options :

- 1. ✘ G
- 2. ✘ B
- 3. ✘ H
- 4. ✔ F

Question Number : 31 Question Id : 9662316045 Question Type : MCQ Option Shuffling : Yes Display Question Number : Yes
 Single Line Question Option : No Option Orientation : Vertical

Correct Marks : 1 Wrong Marks : 0.25

Which of the following Venn diagrams best represents the relationship between cats, mammals and animals?

Options :


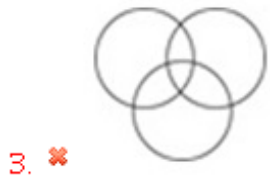
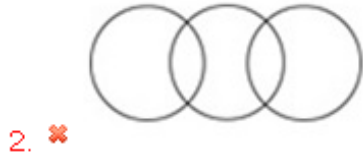
- 1. ✔
- 2. ✘
- 3. ✘
- 4. ✘

Question Number : 31 Question Id : 9662316045 Question Type : MCQ Option Shuffling : Yes Display Question Number : Yes
Single Line Question Option : No Option Orientation : Vertical

Correct Marks : 1 Wrong Marks : 0.25

निम्न में से कौन सा वेन आरेख बिल्लियों, स्तनधारियों और जानवरों के बीच के संबंध को सबसे अच्छा दर्शाता है?

Options :



Question Number : 32 Question Id : 9662316046 Question Type : MCQ Option Shuffling : Yes Display Question Number : Yes
Single Line Question Option : No Option Orientation : Vertical

Correct Marks : 1 Wrong Marks : 0.25

A man travels 8 kms North and then 12 kms South and 3 kms East. How much minimum should he travel to reach his original point?

Options :

1. ✗ 7 km

2. ✗ 6 km

3. ✓ 5 km

4. ✗ 9 km

Question Number : 32 Question Id : 9662316046 Question Type : MCQ Option Shuffling : Yes Display Question Number : Yes
Single Line Question Option : No Option Orientation : Vertical

Correct Marks : 1 Wrong Marks : 0.25

एक आदमी 8 km उत्तर और फिर 12 km दक्षिण और 3 km पूर्व की यात्रा करता है। अपने मूल बिंदु तक पहुंचने के लिए उसे कितनी न्यूनतम यात्रा करनी चाहिए?

Options :

1. ✗ 7 km

2. ✗ 6 km

3. ✓ 5 km

4. ✗ 9 km

Question Number : 33 Question Id : 9662316047 Question Type : MCQ Option Shuffling : Yes Display Question Number : Yes
Single Line Question Option : No Option Orientation : Vertical

Correct Marks : 1 Wrong Marks : 0.25

A man walks 50 m North, 30 m East and 50 m South. Lastly he walks 20 m West. How far is he from the starting point?

Options :

1. ✘ 15 m
2. ✔ 10 m
3. ✘ 5 m
4. ✘ Same place

Question Number : 33 Question Id : 9662316047 Question Type : MCQ Option Shuffling : Yes Display Question Number : Yes
Single Line Question Option : No Option Orientation : Vertical

Correct Marks : 1 Wrong Marks : 0.25

एक आदमी 50 m उत्तर, 30 m पूर्व और 50 m दक्षिण की ओर चलता है। अंत में वह 20 m पश्चिम की ओर चलता है। वह शुरुआती बिंदु के संदर्भ में किस दिशा में है?

Options :

1. ✘ 15 m
2. ✔ 10 m
3. ✘ 5 m
4. ✘ उसी जगह

Question Number : 34 Question Id : 9662316048 Question Type : MCQ Option Shuffling : Yes Display Question Number : Yes
Single Line Question Option : No Option Orientation : Vertical

Correct Marks : 1 Wrong Marks : 0.25

Out of the four options three are similar in a certain way and one is different. Find the option which is different.

Options :

W	H	S
I	O	K
N	Z	Q

1. ✘

H	Q	K
S	O	N
Z	I	W

2. ✘

S	H	N
K	W	I
N	O	Q

3. ✔

I	W	S
N	Q	H
O	Z	K

4. ✘

Question Number : 34 Question Id : 9662316048 Question Type : MCQ Option Shuffling : Yes Display Question Number : Yes
Single Line Question Option : No Option Orientation : Vertical

Correct Marks : 1 Wrong Marks : 0.25

चार विकल्पों में से तीन एक निश्चित तरीके से समान हैं और एक अलग है। वह विकल्प ढूँढें जो अलग है।

Options :

W	H	S
I	O	K
N	Z	Q

1. ✘

H	Q	K
S	O	N
Z	I	W

2. ✘

S	H	N
K	W	I
N	O	Q

3. ✔

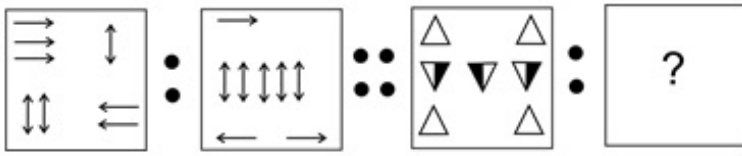
I	W	S
N	Q	H
O	Z	K

4. ✘

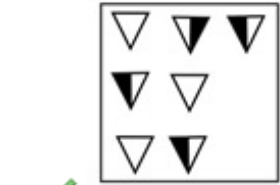
Question Number : 35 Question Id : 9662316049 Question Type : MCQ Option Shuffling : Yes Display Question Number : Yes
Single Line Question Option : No Option Orientation : Vertical

Correct Marks : 1 Wrong Marks : 0.25

Select the image that is related to the third image on the same basis as the second image is related to the first image.



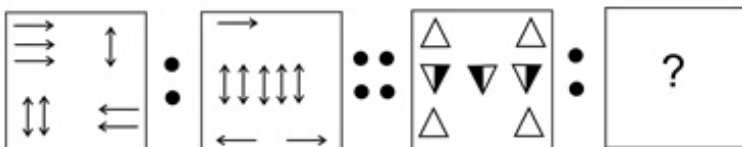
Options :




Question Number : 35 Question Id : 9662316049 Question Type : MCQ Option Shuffling : Yes Display Question Number : Yes Single Line Question Option : No Option Orientation : Vertical

Correct Marks : 1 Wrong Marks : 0.25

उस छवि का चयन करें जो तीसरी छवि से उसी प्रकार से संबंधित है जिस प्रकार से पहली छवि दूसरी छवि से संबंधित है।



Options :



1. ✓



2. ✗



3. ✗

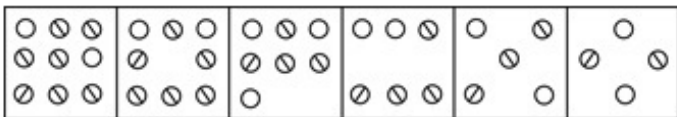


4. ✗

Question Number : 36 Question Id : 9662316050 Question Type : MCQ Option Shuffling : Yes Display Question Number : Yes Single Line Question Option : No Option Orientation : Vertical

Correct Marks : 1 Wrong Marks : 0.25

A figure series of 6 parts is given. One of the parts given in the options is INCORRECT. Find the incorrect part.



A

B

C

D

Options :

1. ✗ A

2. ✓ B

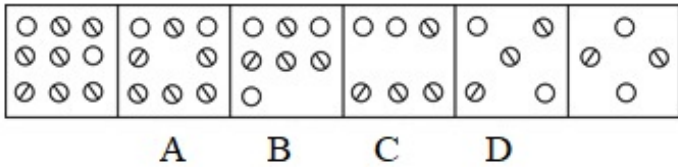
3. ✗ C

4. ✗ D

Question Number : 36 Question Id : 9662316050 Question Type : MCQ Option Shuffling : Yes Display Question Number : Yes Single Line Question Option : No Option Orientation : Vertical

Correct Marks : 1 Wrong Marks : 0.25

6 भागों की एक आकृति श्रृंखला दी गई है। विकल्पों में दिए गए भागों में से एक गलत है। गलत भाग को ज्ञात करें।



A B C D

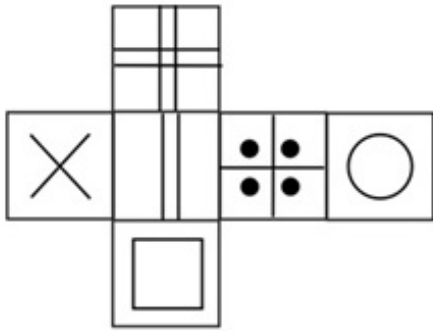
Options :

1. ✘ A
2. ✔ B
3. ✘ C
4. ✘ D

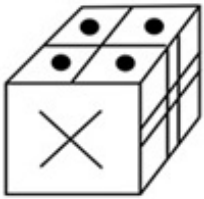
Question Number : 37 Question Id : 9662316051 Question Type : MCQ Option Shuffling : Yes Display Question Number : Yes Single Line Question Option : No Option Orientation : Vertical

Correct Marks : 1 Wrong Marks : 0.25

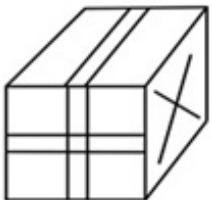
Which of the following cubes in the answer figure CANNOT be made based on the unfolded cube in the question figure?



Options :

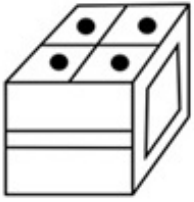


1. ✔

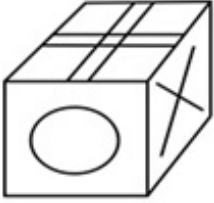


2. ✘

3. ✘



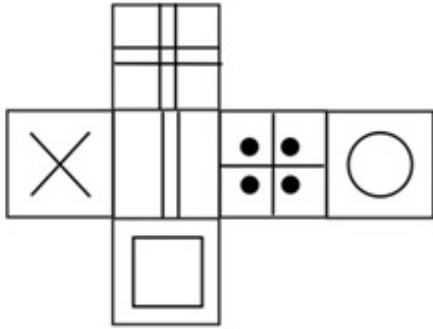
4. ✘



Question Number : 37 Question Id : 9662316051 Question Type : MCQ Option Shuffling : Yes Display Question Number : Yes Single Line Question Option : No Option Orientation : Vertical

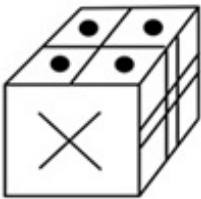
Correct Marks : 1 Wrong Marks : 0.25

उत्तर आकृति में किस घन को प्रश्न आकृति में प्रकट घन के आधार पर नहीं बनाया जा सकता है?

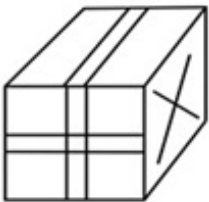


Options :

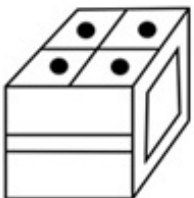
1. ✔

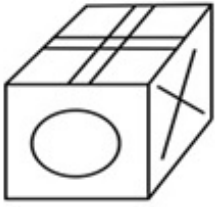


2. ✘



3. ✘





4. ✘

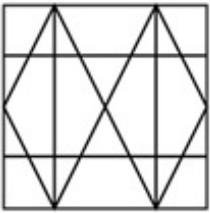
Question Number : 38 Question Id : 9662316052 Question Type : MCQ Option Shuffling : Yes Display Question Number : Yes
 Single Line Question Option : No Option Orientation : Vertical

Correct Marks : 1 Wrong Marks : 0.25

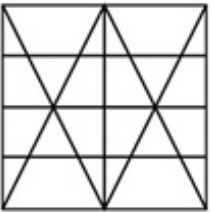
From the given answer figures, select the one in which the question figure is hidden/embedded.



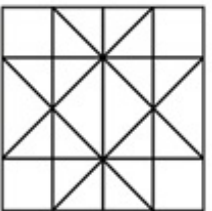
Options :



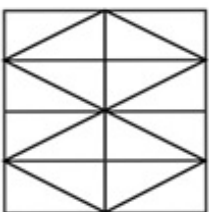
1. ✘



2. ✘



3. ✔



4. ✘

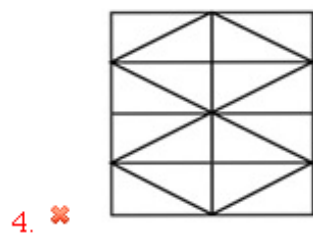
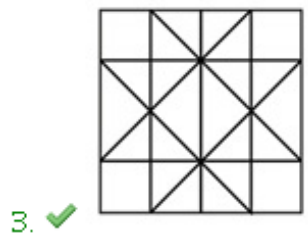
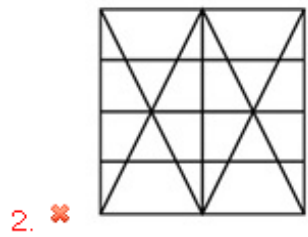
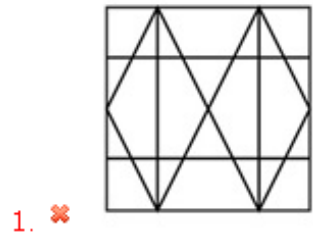
Question Number : 38 Question Id : 9662316052 Question Type : MCQ Option Shuffling : Yes Display Question Number : Yes
Single Line Question Option : No Option Orientation : Vertical

Correct Marks : 1 Wrong Marks : 0.25

दी गई उत्तर आकृतियों में से, उस एक का चयन करें जिसमें प्रश्न आकृति निहित है।



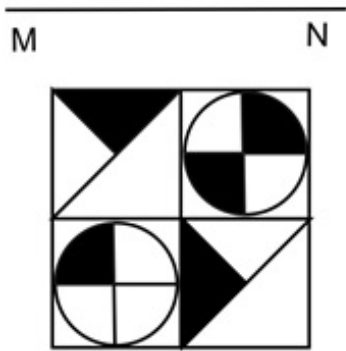
Options :



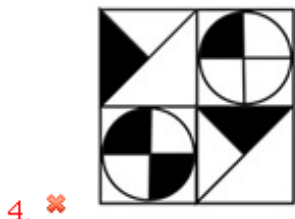
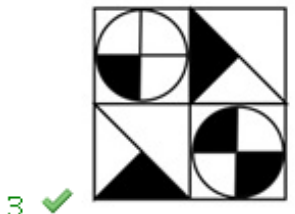
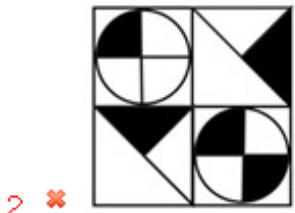
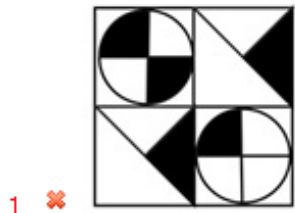
Question Number : 39 Question Id : 9662316053 Question Type : MCQ Option Shuffling : Yes Display Question Number : Yes
Single Line Question Option : No Option Orientation : Vertical

Correct Marks : 1 Wrong Marks : 0.25

If a mirror is placed on the line MN, then which of the answer figures will be the right mirror image of the given figure?

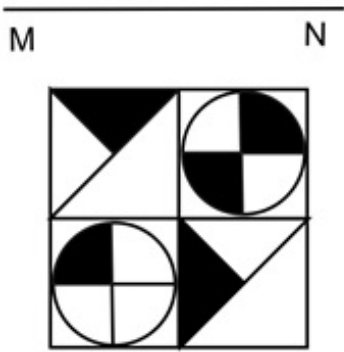


Options :

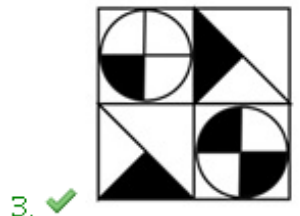
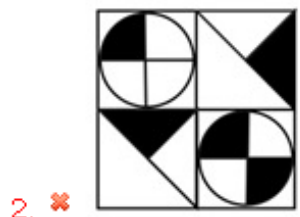
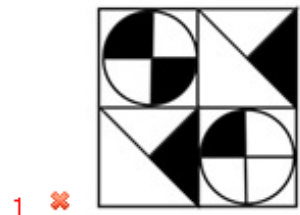


Question Number : 39 Question Id : 9662316053 Question Type : MCQ Option Shuffling : Yes Display Question Number : Yes
 Single Line Question Option : No Option Orientation : Vertical
 Correct Marks : 1 Wrong Marks : 0.25

यदि एक दर्पण को रेखा MN पर रखा गया है, तो कौन सी उत्तर आकृति दी गई आकृति का सही दर्पण प्रतिबिंब होगा?

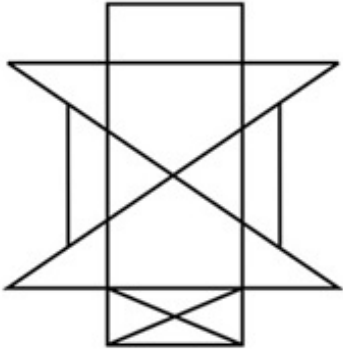


Options :



Question Number : 40 Question Id : 9662316054 Question Type : MCQ Option Shuffling : Yes Display Question Number : Yes
 Single Line Question Option : No Option Orientation : Vertical
 Correct Marks : 1 Wrong Marks : 0.25

What is the minimum number of straight lines required to draw the given figure?



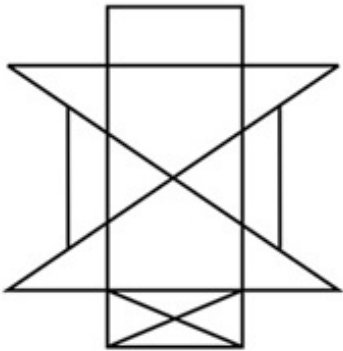
Options :

1. ✘ 10
2. ✘ 11
3. ✔ 12
4. ✘ 13

Question Number : 40 Question Id : 9662316054 Question Type : MCQ Option Shuffling : Yes Display Question Number : Yes
Single Line Question Option : No Option Orientation : Vertical

Correct Marks : 1 Wrong Marks : 0.25

दी गई आकृति को बनाने के लिए आवश्यक सीधी रेखाओं की न्यूनतम संख्या क्या है?



Options :

1. ✘ 10
2. ✘ 11
3. ✔ 12
4. ✘ 13

General Awareness 1

Group Number :	3
Group Id :	96623196
Group Maximum Duration :	0
Group Minimum Duration :	0
Revisit allowed for view? :	No
Revisit allowed for edit? :	No
Break time:	0
Group Marks:	20
Revisit allowed for group Instructions? :	Yes
Maximum Instruction Time:	0

Minimum Instruction Time:

0

General Awareness1

Section Id :	966231211
Section Number :	1
Section type :	Online
Mandatory or Optional:	Mandatory
Number of Questions:	20
Number of Questions to be attempted:	20
Section Marks:	20
Display Number Panel:	Yes
Group All Questions:	No

Sub-Section Number:	1
Sub-Section Id:	966231225
Question Shuffling Allowed :	Yes

Question Number : 41 Question Id : 9662316055 Question Type : MCQ Option Shuffling : Yes Display Question Number : Yes
Single Line Question Option : No Option Orientation : Vertical

Correct Marks : 1 Wrong Marks : 0.25

Which among the following dance form is performed during the Gajan festival of Lord Shiva?

Options :

1. ✘ Jhijhian
2. ✘ Domni
3. ✔ Alkap
4. ✘ Brita

Question Number : 41 Question Id : 9662316055 Question Type : MCQ Option Shuffling : Yes Display Question Number : Yes
Single Line Question Option : No Option Orientation : Vertical

Correct Marks : 1 Wrong Marks : 0.25

निम्नलिखित में से कौन सा नृत्य रूप भगवान शिव के गजन त्यौहार पर्व के दौरान किया जाता है?

Options :

1. ✘ झिझिआन
2. ✘ डोमनी
3. ✔ अल्काप
4. ✘ ब्रिता

Question Number : 42 Question Id : 9662316056 Question Type : MCQ Option Shuffling : Yes Display Question Number : Yes
Single Line Question Option : No Option Orientation : Vertical

Correct Marks : 1 Wrong Marks : 0.25

Jaanapada Geethe is a collection of folk songs that narrate the everyday lives of the people. With which of the following states is it associated?

Options :

1. ✔ Karnataka
2. ✘ Gujarat
3. ✘ West Bengal
4. ✘ Jharkhand

Question Number : 42 Question Id : 9662316056 Question Type : MCQ Option Shuffling : Yes Display Question Number : Yes
Single Line Question Option : No Option Orientation : Vertical

Correct Marks : 1 Wrong Marks : 0.25

जानापद गीत लोक गीतों का एक संग्रह है जो लोगों के रोजमर्रा के जीवन को बयान करता है। निम्नलिखित में से किस राज्य से जुड़ा हुआ है?

Options :

1. ✓ कर्नाटक
2. ✗ गुजरात
3. ✗ पश्चिम बंगाल
4. ✗ झारखंड

Question Number : 43 Question Id : 9662316057 Question Type : MCQ Option Shuffling : Yes Display Question Number : Yes
Single Line Question Option : No Option Orientation : Vertical

Correct Marks : 1 Wrong Marks : 0.25

The construction of the Kutub Minar was started by the founder of the _____.

Note: For this question, discrepancy is found in question/answer. So, this question is ignored for all candidates.

Options :

1. Slav Dynasty
2. Tughlaq Dynasty
3. Mamluk Dynasty
4. Delhi Sultanate

Question Number : 43 Question Id : 9662316057 Question Type : MCQ Option Shuffling : Yes Display Question Number : Yes
Single Line Question Option : No Option Orientation : Vertical

Correct Marks : 1 Wrong Marks : 0.25

कुतुब मीनार का निर्माण _____ के संस्थापक द्वारा शुरू किया गया था।

Note: For this question, discrepancy is found in question/answer. So, this question is ignored for all candidates.

Options :

1. स्लाव राजवंश
2. तुगलक राजवंश
3. ममलुक राजवंश
4. दिल्ली सल्तनत

Question Number : 44 Question Id : 9662316058 Question Type : MCQ Option Shuffling : Yes Display Question Number : Yes
Single Line Question Option : No Option Orientation : Vertical

Correct Marks : 1 Wrong Marks : 0.25

Losong festival is celebrated each year in the month of _____.

Options :

1. ✗ January
2. ✗ April
3. ✗ March
4. ✓ December

Question Number : 44 Question Id : 9662316058 Question Type : MCQ Option Shuffling : Yes Display Question Number : Yes
Single Line Question Option : No Option Orientation : Vertical

Correct Marks : 1 Wrong Marks : 0.25

लोसोंग त्यौहार हर साल _____ के महीने में मनाया जाता है।

Options :

1. ✘ जनवरी
2. ✘ अप्रैल
3. ✘ मार्च
4. ✔ दिसंबर

Question Number : 45 Question Id : 9662316059 Question Type : MCQ Option Shuffling : Yes Display Question Number : Yes
Single Line Question Option : No Option Orientation : Vertical

Correct Marks : 1 Wrong Marks : 0.25

NIFC stands for

Options :

1. ✘ Net Income Foreign Cost
2. ✘ National Income Foreign Cost
3. ✘ Net Income at Factor Cost
4. ✔ National Income at Factor Cost

Question Number : 45 Question Id : 9662316059 Question Type : MCQ Option Shuffling : Yes Display Question Number : Yes
Single Line Question Option : No Option Orientation : Vertical

Correct Marks : 1 Wrong Marks : 0.25

NIFC का संक्षिप्तीकरण है

Options :

1. ✘ नेट इनकम फॉरेन कॉस्ट
2. ✘ नेशनल इनकम फॉरेन कॉस्ट
3. ✘ नेट इनकम एट फैक्टर कॉस्ट
4. ✔ नेशनल इनकम एट फैक्टर कॉस्ट

Question Number : 46 Question Id : 9662316060 Question Type : MCQ Option Shuffling : Yes Display Question Number : Yes
Single Line Question Option : No Option Orientation : Vertical

Correct Marks : 1 Wrong Marks : 0.25

Utkal Gramteen Bank is situated in

Options :

1. ✘ Jharkhand
2. ✘ Raipur
3. ✘ Kohima
4. ✔ Odisha

Question Number : 46 Question Id : 9662316060 Question Type : MCQ Option Shuffling : Yes Display Question Number : Yes
Single Line Question Option : No Option Orientation : Vertical

Correct Marks : 1 Wrong Marks : 0.25

उत्कल ग्रामीण बैंक में स्थित है

Options :

1. ✘ झारखंड
2. ✘ रायपुर
3. ✘ कोहिमा
4. ✔ ओडिशा

Question Number : 47 Question Id : 9662316061 Question Type : MCQ Option Shuffling : Yes Display Question Number : Yes
Single Line Question Option : No Option Orientation : Vertical

Correct Marks : 1 Wrong Marks : 0.25

As announced in the Budget of 2019, the 22nd All India Institute of Medical Sciences will come up in

Options :

1. ✓ Haryana
2. ✗ Bangalore
3. ✗ Punjab
4. ✗ Chennai

Question Number : 47 Question Id : 9662316061 Question Type : MCQ Option Shuffling : Yes Display Question Number : Yes
Single Line Question Option : No Option Orientation : Vertical

Correct Marks : 1 Wrong Marks : 0.25

जैसा कि 2019 के बजट में घोषित किया गया है, 22 वां अखिल भारतीय आयुर्विज्ञान संस्थान _____ में आएगा

Options :

1. ✓ हरयाणा
2. ✗ बंगलौर
3. ✗ पंजाब
4. ✗ चेन्नई

Question Number : 48 Question Id : 9662316062 Question Type : MCQ Option Shuffling : Yes Display Question Number : Yes
Single Line Question Option : No Option Orientation : Vertical

Correct Marks : 1 Wrong Marks : 0.25

The motion of a body about its mean position is known as _____

Options :

1. ✓ vibratory motion
2. ✗ random motion
3. ✗ rotatory motion
4. ✗ translatory motion

Question Number : 48 Question Id : 9662316062 Question Type : MCQ Option Shuffling : Yes Display Question Number : Yes
Single Line Question Option : No Option Orientation : Vertical

Correct Marks : 1 Wrong Marks : 0.25

पिंड की गति उसकी औसत स्थिति में _____ के रूप से जानी जाती है

Options :

1. ✓ कंपन गति
2. ✗ बेतरतीब गति
3. ✗ घूर्णी गति
4. ✗ अनुवाद संबंधी गति

Question Number : 49 Question Id : 9662316063 Question Type : MCQ Option Shuffling : Yes Display Question Number : Yes
Single Line Question Option : No Option Orientation : Vertical

Correct Marks : 1 Wrong Marks : 0.25

_____ is used to process sugar and make gelatin.

Options :

1. ✗ Calcium Oxide
2. ✓ Hydrochloric Acid
3. ✗ Ascorbic Acid
4. ✗ Phosphoric Acid

Question Number : 49 Question Id : 9662316063 Question Type : MCQ Option Shuffling : Yes Display Question Number : Yes
Single Line Question Option : No Option Orientation : Vertical

Correct Marks : 1 Wrong Marks : 0.25

----- का उपयोग चीनी को संसाधित करने और जिलेटिन बनाने के लिए किया जाता है।

Options :

1. ✘ कैल्शियम ऑक्साइड
2. ✔ हाइड्रोक्लोरिक अम्ल
3. ✘ एस्कोबिक अम्ल
4. ✘ फास्फोरिक अम्ल

Question Number : 50 Question Id : 9662316064 Question Type : MCQ Option Shuffling : Yes Display Question Number : Yes
Single Line Question Option : No Option Orientation : Vertical

Correct Marks : 1 Wrong Marks : 0.25

When was the Central Rural Sanitation Programme launched?

Options :

1. ✘ 1975
2. ✔ 1986
3. ✘ 1985
4. ✘ 1992

Question Number : 50 Question Id : 9662316064 Question Type : MCQ Option Shuffling : Yes Display Question Number : Yes
Single Line Question Option : No Option Orientation : Vertical

Correct Marks : 1 Wrong Marks : 0.25

केंद्रीय ग्रामीण स्वच्छता कार्यक्रम का शुभारंभ कब किया गया था?

Options :

1. ✘ 1975
2. ✔ 1986
3. ✘ 1985
4. ✘ 1992

Question Number : 51 Question Id : 9662316065 Question Type : MCQ Option Shuffling : Yes Display Question Number : Yes
Single Line Question Option : No Option Orientation : Vertical

Correct Marks : 1 Wrong Marks : 0.25

Tadoba Tiger Reserve is situated in -----.

Options :

1. ✘ Haryana
2. ✘ Punjab
3. ✘ Gujarat
4. ✔ Maharashtra

Question Number : 51 Question Id : 9662316065 Question Type : MCQ Option Shuffling : Yes Display Question Number : Yes
Single Line Question Option : No Option Orientation : Vertical

Correct Marks : 1 Wrong Marks : 0.25

तदोबा टाइगर रिजर्व ----- में स्थित है।

Options :

1. ✘ हरियाणा
2. ✘ पंजाब
3. ✘ गुजरात
4. ✔ महाराष्ट्र

Question Number : 52 Question Id : 9662316066 Question Type : MCQ Option Shuffling : Yes Display Question Number : Yes
Single Line Question Option : No Option Orientation : Vertical

Correct Marks : 1 Wrong Marks : 0.25

Star fish belongs to phylum _____.

Options :

1. ✘ Hemichordata
2. ✔ Echinodermata
3. ✘ Chordata
4. ✘ Aschelminthes

Question Number : 52 Question Id : 9662316066 Question Type : MCQ Option Shuffling : Yes Display Question Number : Yes
Single Line Question Option : No Option Orientation : Vertical

Correct Marks : 1 Wrong Marks : 0.25

तारामीन _____ संघ से संबंधित है।

Options :

1. ✘ हेमीकोर्डेटा
2. ✔ इकाइनोडर्मेटा
3. ✘ रज्जुकी
4. ✘ असचेल्मिन्थेस

Question Number : 53 Question Id : 9662316067 Question Type : MCQ Option Shuffling : Yes Display Question Number : Yes
Single Line Question Option : No Option Orientation : Vertical

Correct Marks : 1 Wrong Marks : 0.25

The female sex organ of bryophytes are called _____.

Options :

1. ✘ sporophyte
2. ✘ antherozoids
3. ✘ antheridium
4. ✔ archegonium

Question Number : 53 Question Id : 9662316067 Question Type : MCQ Option Shuffling : Yes Display Question Number : Yes
Single Line Question Option : No Option Orientation : Vertical

Correct Marks : 1 Wrong Marks : 0.25

ब्रायोफाइटा के महिला यौन अंग को _____ कहा जाता है।

Options :

1. ✘ स्पोरोफाइट
2. ✘ अंथेरोज़ोइड्स
3. ✘ अंथेरिडियम
4. ✔ अर्चेगोनियम

Question Number : 54 Question Id : 9662316068 Question Type : MCQ Option Shuffling : Yes Display Question Number : Yes
Single Line Question Option : No Option Orientation : Vertical

Correct Marks : 1 Wrong Marks : 0.25

Boiling contaminated water will remove all _____ from the liquid.

Options :

1. ✘ Hydrogen
2. ✔ Oxygen
3. ✘ Carbon dioxide

4. ✖ Methane

Question Number : 54 Question Id : 9662316068 Question Type : MCQ Option Shuffling : Yes Display Question Number : Yes
Single Line Question Option : No Option Orientation : Vertical

Correct Marks : 1 Wrong Marks : 0.25

दूषित पानी को उबालने से तरल से सभी _____ निकल जाएंगे।

Options :

1. ✖ हाइड्रोजन
2. ✔ ऑक्सीजन
3. ✖ कार्बन डाइऑक्साइड
4. ✖ मीथेन

Question Number : 55 Question Id : 9662316069 Question Type : MCQ Option Shuffling : Yes Display Question Number : Yes
Single Line Question Option : No Option Orientation : Vertical

Correct Marks : 1 Wrong Marks : 0.25

Niacin is the real name of Vitamin _____.

Options :

1. ✔ B3
2. ✖ B1
3. ✖ D
4. ✖ E

Question Number : 55 Question Id : 9662316069 Question Type : MCQ Option Shuffling : Yes Display Question Number : Yes
Single Line Question Option : No Option Orientation : Vertical

Correct Marks : 1 Wrong Marks : 0.25

नाइयासिन विटामिन _____ का वास्तविक नाम है।

Options :

1. ✔ B3
2. ✖ B1
3. ✖ D
4. ✖ E

Question Number : 56 Question Id : 9662316070 Question Type : MCQ Option Shuffling : Yes Display Question Number : Yes
Single Line Question Option : No Option Orientation : Vertical

Correct Marks : 1 Wrong Marks : 0.25

Which among the following is the largest dam of Karnataka?

Options :

1. ✖ Rihand dam
2. ✔ Tungabhadra dam
3. ✖ Bhavanisagar dam
4. ✖ Maithon dam

Question Number : 56 Question Id : 9662316070 Question Type : MCQ Option Shuffling : Yes Display Question Number : Yes
Single Line Question Option : No Option Orientation : Vertical

Correct Marks : 1 Wrong Marks : 0.25

निम्नलिखित में से कौन सा कर्नाटक का सबसे बड़ा बांध है?

Options :

1. ✖ रिहंद बांध
2. ✔ तुंगभद्रा बांध

3. ✘ भवानीसागर बांध
4. ✘ मैथन बांध

Question Number : 57 Question Id : 9662316071 Question Type : MCQ Option Shuffling : Yes Display Question Number : Yes
Single Line Question Option : No Option Orientation : Vertical

Correct Marks : 1 Wrong Marks : 0.25

The ancient name of _____ river is Vetravati.

Options :

1. ✘ Krishna
2. ✔ Betwa
3. ✘ Indus
4. ✘ Jhelum

Question Number : 57 Question Id : 9662316071 Question Type : MCQ Option Shuffling : Yes Display Question Number : Yes
Single Line Question Option : No Option Orientation : Vertical

Correct Marks : 1 Wrong Marks : 0.25

_____ नदी का प्राचीन नाम वेत्रवती है

Options :

1. ✘ कृष्णा
2. ✔ बेतवा
3. ✘ सिंधु
4. ✘ झेलम

Question Number : 58 Question Id : 9662316072 Question Type : MCQ Option Shuffling : Yes Display Question Number : Yes
Single Line Question Option : No Option Orientation : Vertical

Correct Marks : 1 Wrong Marks : 0.25

Which soil is commonly used for making bricks?

Options :

1. ✘ Alkaline soil
2. ✘ Black soil
3. ✘ Red soil
4. ✔ Laterite soil

Question Number : 58 Question Id : 9662316072 Question Type : MCQ Option Shuffling : Yes Display Question Number : Yes
Single Line Question Option : No Option Orientation : Vertical

Correct Marks : 1 Wrong Marks : 0.25

ईंट बनाने के लिए आमतौर पर किस मृदा का उपयोग किया जाता है?

Options :

1. ✘ क्षारीय मृदा
2. ✘ काली मृदा
3. ✘ लाल मृदा
4. ✔ लैटेराइट मृदा

Question Number : 59 Question Id : 9662316073 Question Type : MCQ Option Shuffling : Yes Display Question Number : Yes
Single Line Question Option : No Option Orientation : Vertical

Correct Marks : 1 Wrong Marks : 0.25

Afghanistan lies to the _____ of India.

Options :

1. ✘ east

2. ✓ north-west
3. ✗ north-east
4. ✗ south-west

Question Number : 59 Question Id : 9662316073 Question Type : MCQ Option Shuffling : Yes Display Question Number : Yes
Single Line Question Option : No Option Orientation : Vertical

Correct Marks : 1 Wrong Marks : 0.25

अफ़ग़ानिस्तान भारत के _____ में स्थित है।

Options :

1. ✗ पूर्व
2. ✓ उत्तर-पश्चिम
3. ✗ उत्तर-पूर्व
4. ✗ दक्षिण- पश्चिम

Question Number : 60 Question Id : 9662316074 Question Type : MCQ Option Shuffling : Yes Display Question Number : Yes
Single Line Question Option : No Option Orientation : Vertical

Correct Marks : 1 Wrong Marks : 0.25

The White Revolution is related to _____.

Options :

1. ✗ rice
2. ✗ cotton
3. ✓ milk
4. ✗ barley

Question Number : 60 Question Id : 9662316074 Question Type : MCQ Option Shuffling : Yes Display Question Number : Yes
Single Line Question Option : No Option Orientation : Vertical

Correct Marks : 1 Wrong Marks : 0.25

श्वेत क्रांति _____ से संबंधित है।

Options :

1. ✗ चावल
2. ✗ कपास
3. ✓ दूध
4. ✗ जौ

General Awareness2

Group Number :	4
Group Id :	96623197
Group Maximum Duration :	0
Group Minimum Duration :	0
Revisit allowed for view? :	No
Revisit allowed for edit? :	No
Break time:	0
Group Marks:	20
Revisit allowed for group Instructions? :	Yes
Maximum Instruction Time:	0
Minimum Instruction Time:	0

General Awareness2

Section Id :	966231212
Section Number :	1
Section type :	Online
Mandatory or Optional:	Mandatory
Number of Questions:	20
Number of Questions to be attempted:	20
Section Marks:	20
Display Number Panel:	Yes
Group All Questions:	No

Sub-Section Number:	1
Sub-Section Id:	966231226
Question Shuffling Allowed :	Yes

Question Number : 61 Question Id : 9662316075 Question Type : MCQ Option Shuffling : Yes Display Question Number : Yes
Single Line Question Option : No Option Orientation : Vertical

Correct Marks : 1 Wrong Marks : 0.25

The _____ is also known as Sahyadri hills.

Options :

- ✘ Karakoram Range
- ✘ Eastern Ghats
- ✔ Western Ghats
- ✘ Aravalli Range

Question Number : 61 Question Id : 9662316075 Question Type : MCQ Option Shuffling : Yes Display Question Number : Yes
Single Line Question Option : No Option Orientation : Vertical

Correct Marks : 1 Wrong Marks : 0.25

_____ को सह्याद्री पहाड़ियों के नाम से भी जाना जाता है।

Options :

- ✘ काराकोरम रेंज
- ✘ पूर्वी घाट
- ✔ पश्चिमी घाट
- ✘ अरावली रेंज

Question Number : 62 Question Id : 9662316076 Question Type : MCQ Option Shuffling : Yes Display Question Number : Yes
Single Line Question Option : No Option Orientation : Vertical

Correct Marks : 1 Wrong Marks : 0.25

In 1924, Hindustan Republican Association was formed in _____.

Options :

- ✘ Delhi
- ✔ Kanpur
- ✘ Mumbai
- ✘ Punjab

Question Number : 62 Question Id : 9662316076 Question Type : MCQ Option Shuffling : Yes Display Question Number : Yes
Single Line Question Option : No Option Orientation : Vertical

Correct Marks : 1 Wrong Marks : 0.25

1924 में, _____ में हिंदुस्तान रिपब्लिकन एसोसिएशन का गठन किया गया था।

Options :

1. ✘ दिल्ली
2. ✔ कानपुर
3. ✘ मुंबई
4. ✘ पंजाब

Question Number : 63 Question Id : 9662316077 Question Type : MCQ Option Shuffling : Yes Display Question Number : Yes
Single Line Question Option : No Option Orientation : Vertical

Correct Marks : 1 Wrong Marks : 0.25

When did the Non-Cooperation movement start?

Options :

1. ✘ 4th May 1920
2. ✘ 2nd April 1921
3. ✘ 5th March 1918
4. ✔ 1st August 1920

Question Number : 63 Question Id : 9662316077 Question Type : MCQ Option Shuffling : Yes Display Question Number : Yes
Single Line Question Option : No Option Orientation : Vertical

Correct Marks : 1 Wrong Marks : 0.25

असहयोग आंदोलन कब शुरू हुआ?

Options :

1. ✘ 4 मई 1920
2. ✘ 2 अप्रैल 1921
3. ✘ 5 मार्च 1918
4. ✔ 1 अगस्त 1920

Question Number : 64 Question Id : 9662316078 Question Type : MCQ Option Shuffling : Yes Display Question Number : Yes
Single Line Question Option : No Option Orientation : Vertical

Correct Marks : 1 Wrong Marks : 0.25

Who was the founder of the Sayyid Dynasty?

Options :

1. ✘ Muhammad Shah
2. ✘ Mubarak Shah
3. ✔ Khizir Khan
4. ✘ Shah Alam

Question Number : 64 Question Id : 9662316078 Question Type : MCQ Option Shuffling : Yes Display Question Number : Yes
Single Line Question Option : No Option Orientation : Vertical

Correct Marks : 1 Wrong Marks : 0.25

सैयद राजवंश का संस्थापक कौन था?

Options :

1. ✘ मुहम्मद शाह
2. ✘ मुबारक शाह
3. ✔ खिज़्र खान
4. ✘ शाह आलम

Question Number : 65 Question Id : 9662316079 Question Type : MCQ Option Shuffling : Yes Display Question Number : Yes
Single Line Question Option : No Option Orientation : Vertical

Correct Marks : 1 Wrong Marks : 0.25

_____ introduced the Mansabdari System (Holder of rank) to organise the nobility and army.

Options :

1. ✓ Akbar
2. ✗ Humayun
3. ✗ Jahangir
4. ✗ Shah Jahan

Question Number : 65 Question Id : 9662316079 Question Type : MCQ Option Shuffling : Yes Display Question Number : Yes
Single Line Question Option : No Option Orientation : Vertical

Correct Marks : 1 Wrong Marks : 0.25

_____ ने कुलीनता और सेना को व्यवस्थित करने के लिए मनसबदारी प्रणाली (पद का धारक) की शुरुआत की।

Options :

1. ✓ अकबर
2. ✗ हुमायूँ
3. ✗ जहांगीर
4. ✗ शाह जहाँ

Question Number : 66 Question Id : 9662316080 Question Type : MCQ Option Shuffling : Yes Display Question Number : Yes
Single Line Question Option : No Option Orientation : Vertical

Correct Marks : 1 Wrong Marks : 0.25

Who among the following is known as 'Sahid-i-Mazlum'?

Options :

1. ✗ Babur
2. ✓ Farrukhsiyar
3. ✗ Alamgir
4. ✗ Shah Alam

Question Number : 66 Question Id : 9662316080 Question Type : MCQ Option Shuffling : Yes Display Question Number : Yes
Single Line Question Option : No Option Orientation : Vertical

Correct Marks : 1 Wrong Marks : 0.25

निम्नलिखित में से किसे 'साहिद-ए-मजलूम' के नाम से जाना जाता है?

Options :

1. ✗ बाबर
2. ✓ फ़र्रूख़ सियर
3. ✗ आलमगीर
4. ✗ शाह आलम

Question Number : 67 Question Id : 9662316081 Question Type : MCQ Option Shuffling : Yes Display Question Number : Yes
Single Line Question Option : No Option Orientation : Vertical

Correct Marks : 1 Wrong Marks : 0.25

Ralph Fitch was the first Englishman to visit _____ court.

Options :

1. ✗ Jahangir's
2. ✗ Humayun's
3. ✗ Babur's
4. ✓ Akbar's

Question Number : 67 Question Id : 9662316081 Question Type : MCQ Option Shuffling : Yes Display Question Number : Yes
Single Line Question Option : No Option Orientation : Vertical

Correct Marks : 1 Wrong Marks : 0.25

राल्फ फिच _____ दरबार जाने वाले पहले अंग्रेज थे।

Options :

- ✘ जहांगीर के
- ✘ हुमायूँ के
- ✘ बाबर के
- ✓ अकबर के

Question Number : 68 Question Id : 9662316082 Question Type : MCQ Option Shuffling : Yes Display Question Number : Yes
Single Line Question Option : No Option Orientation : Vertical

Correct Marks : 1 Wrong Marks : 0.25

India : The Future is Now' is written by _____.

Options :

- ✘ Natwar Singh
- ✓ Shashi Tharoor
- ✘ Kiran Bedi
- ✘ Amish Tripathi

Question Number : 68 Question Id : 9662316082 Question Type : MCQ Option Shuffling : Yes Display Question Number : Yes
Single Line Question Option : No Option Orientation : Vertical

Correct Marks : 1 Wrong Marks : 0.25

इन्डिया : दी फ्यूचर नाउ' ईस _____ द्वारा लिखी गई है।

Options :

- ✘ नटवर सिंह
- ✓ शशि थरूर
- ✘ किरण बेदी
- ✘ अमीष त्रिपाठी

Question Number : 69 Question Id : 9662316083 Question Type : MCQ Option Shuffling : Yes Display Question Number : Yes
Single Line Question Option : No Option Orientation : Vertical

Correct Marks : 1 Wrong Marks : 0.25

_____ has withdrawn its membership from the Organization of the Petroleum Exporting Countries (OPEC) with effect from 01 Jan 2019.

Options :

- ✘ Venezuela
- ✘ Saudi Arabia
- ✘ Nigeria
- ✓ Qatar

Question Number : 69 Question Id : 9662316083 Question Type : MCQ Option Shuffling : Yes Display Question Number : Yes
Single Line Question Option : No Option Orientation : Vertical

Correct Marks : 1 Wrong Marks : 0.25

_____ ने 01 जनवरी 2019 से पेट्रोलियम निर्यातक देशों के संगठन (ओपेक) से अपनी सदस्यता वापस ले ली है।

Options :

- ✘ वेनेज़ुएला
- ✘ सउदी अरब
- ✘ नाईजीरिया
- ✓ कतार

Question Number : 70 Question Id : 9662316084 Question Type : MCQ Option Shuffling : Yes Display Question Number : Yes
Single Line Question Option : No Option Orientation : Vertical

Correct Marks : 1 Wrong Marks : 0.25

Space Applications Centre at _____ is engaged in the development of pay loads for communication, meteorological and remote sensing satellites.

Options :

- ✓ Ahmedabad
- ✗ Mumbai
- ✗ Kanpur
- ✗ Punjab

Question Number : 70 Question Id : 9662316084 Question Type : MCQ Option Shuffling : Yes Display Question Number : Yes
Single Line Question Option : No Option Orientation : Vertical

Correct Marks : 1 Wrong Marks : 0.25

_____ में अंतरिक्ष अनुप्रयोग केंद्र, मौसम विज्ञान और दूरस्थ संवेदी उपग्रहों के लिए भुगतान भार के विकास में लगा हुआ है

Options :

- ✓ अहमदाबाद
- ✗ मुंबई
- ✗ कानपुर
- ✗ पंजाब

Question Number : 71 Question Id : 9662316085 Question Type : MCQ Option Shuffling : Yes Display Question Number : Yes
Single Line Question Option : No Option Orientation : Vertical

Correct Marks : 1 Wrong Marks : 0.25

_____ launched Bhrashtachar Mitao Andolan, a movement against corruption which brought down the congress government in 1977.

Options :

- ✗ Shyama Prasad Mukherjee
- ✓ Jai Prakash Narayan
- ✗ Syed Ahmed Khan
- ✗ Acharya Vinoba Bhave

Question Number : 71 Question Id : 9662316085 Question Type : MCQ Option Shuffling : Yes Display Question Number : Yes
Single Line Question Option : No Option Orientation : Vertical

Correct Marks : 1 Wrong Marks : 0.25

_____ ने भ्रष्टाचार मिटाओ आन्दोलन का शुभारंभ किया, जो भ्रष्टाचार के खिलाफ एक आंदोलन था जिसने 1977 में कांग्रेस सरकार को नीचे लाया

Options :

- ✗ श्यामा प्रसाद मुखर्जी
- ✓ जय प्रकाश नारायण
- ✗ सैयद अहमद खान
- ✗ आचार्य विनोबा भावे

Question Number : 72 Question Id : 9662316086 Question Type : MCQ Option Shuffling : Yes Display Question Number : Yes
Single Line Question Option : No Option Orientation : Vertical

Correct Marks : 1 Wrong Marks : 0.25

Which among the following songs won the Grammy Awards for Song of the year 2019?

Options :

- ✗ The Joke

2. ✓ This is America
3. ✗ God's Plan
4. ✗ In My Blood

Question Number : 72 Question Id : 9662316086 Question Type : MCQ Option Shuffling : Yes Display Question Number : Yes
Single Line Question Option : No Option Orientation : Vertical

Correct Marks : 1 Wrong Marks : 0.25

निम्न गीतों में से किस गीत ने वर्ष 2019 के लिए ग्रैमी पुरस्कार जीता?

Options :

1. ✗ दा जोक
2. ✓ दीस इस अमेरिका
3. ✗ गोड्स प्लान
4. ✗ इन माई ब्लड

Question Number : 73 Question Id : 9662316087 Question Type : MCQ Option Shuffling : Yes Display Question Number : Yes
Single Line Question Option : No Option Orientation : Vertical

Correct Marks : 1 Wrong Marks : 0.25

Manoj Bajpayee received the _____ in 2019 for his contribution in the field of Art-Acting-Films.

Options :

1. ✓ Padma Shree
2. ✗ Padma Vibhushan
3. ✗ Padma Bhushan
4. ✗ Bharat Ratna

Question Number : 73 Question Id : 9662316087 Question Type : MCQ Option Shuffling : Yes Display Question Number : Yes
Single Line Question Option : No Option Orientation : Vertical

Correct Marks : 1 Wrong Marks : 0.25

मनोज बाजपेयी ने कला-अभिनय-फिल्मों के क्षेत्र में उनके योगदान के लिए 2019 में _____ प्राप्त किया।

Options :

1. ✓ पद्मश्री
2. ✗ पद्म विभूषण
3. ✗ पद्म भूषण
4. ✗ भारत रत्न

Question Number : 74 Question Id : 9662316088 Question Type : MCQ Option Shuffling : Yes Display Question Number : Yes
Single Line Question Option : No Option Orientation : Vertical

Correct Marks : 1 Wrong Marks : 0.25

Part IV of the Indian Constitution deals with _____.

Options :

1. ✗ Fundamental Duties
2. ✓ Directive Principles of our State Policy
3. ✗ Citizenship
4. ✗ Fundamental Rights

Question Number : 74 Question Id : 9662316088 Question Type : MCQ Option Shuffling : Yes Display Question Number : Yes
Single Line Question Option : No Option Orientation : Vertical

Correct Marks : 1 Wrong Marks : 0.25

भारतीय संविधान का भाग IV _____ से संबंधित है।

Options :

1. ✘ मौलिक कर्तव्य
2. ✔ हमारी राज्य नीति के निर्देशक सिद्धांत
3. ✘ नागरिकता
4. ✘ मौलिक अधिकार

Question Number : 75 Question Id : 9662316089 Question Type : MCQ Option Shuffling : Yes Display Question Number : Yes
Single Line Question Option : No Option Orientation : Vertical

Correct Marks : 1 Wrong Marks : 0.25

Protection of interests of minorities comes under _____.

Options :

1. ✘ Right to Equality
2. ✔ Cultural and Educational Rights
3. ✘ Right against Exploitation
4. ✘ Right to Constitutional Remedies

Question Number : 75 Question Id : 9662316089 Question Type : MCQ Option Shuffling : Yes Display Question Number : Yes
Single Line Question Option : No Option Orientation : Vertical

Correct Marks : 1 Wrong Marks : 0.25

अल्पसंख्यकों के हितों का संरक्षण _____ के अंतर्गत आता है।

Options :

1. ✘ समानता का अधिकार
2. ✔ सांस्कृतिक और शैक्षिक अधिकार
3. ✘ शोषण के खिलाफ अधिकार
4. ✘ संवैधानिक उपचार का अधिकार

Question Number : 76 Question Id : 9662316090 Question Type : MCQ Option Shuffling : Yes Display Question Number : Yes
Single Line Question Option : No Option Orientation : Vertical

Correct Marks : 1 Wrong Marks : 0.25

The concept of the Fundamental Rights of the Indian Constitution is borrowed from the Constitution of _____.

Options :

1. ✔ The United States of America
2. ✘ Canada
3. ✘ France
4. ✘ Australia

Question Number : 76 Question Id : 9662316090 Question Type : MCQ Option Shuffling : Yes Display Question Number : Yes
Single Line Question Option : No Option Orientation : Vertical

Correct Marks : 1 Wrong Marks : 0.25

भारतीय संविधान के मौलिक अधिकारों की अवधारणा _____ के संविधान से उधार ली गई है।

Options :

1. ✔ संयुक्त राज्य अमेरिका
2. ✘ कनाडा
3. ✘ फ्रांस
4. ✘ ऑस्ट्रेलिया

Question Number : 77 Question Id : 9662316091 Question Type : MCQ Option Shuffling : Yes Display Question Number : Yes
Single Line Question Option : No Option Orientation : Vertical

Correct Marks : 1 Wrong Marks : 0.25

Which among the following Articles of the Indian Constitution prohibits discrimination on the basis of religion, race, caste, sex or place of birth?

Options :

- ✘ Article 20
- ✔ Article 15
- ✘ Article 23
- ✘ Article 18

Question Number : 77 Question Id : 9662316091 Question Type : MCQ Option Shuffling : Yes Display Question Number : Yes
Single Line Question Option : No Option Orientation : Vertical

Correct Marks : 1 Wrong Marks : 0.25

भारतीय संविधान के निम्नलिखित लेखों में से कौन सा धर्म, जाति, कुल, लिंग या जन्म स्थान के आधार पर भेदभाव को रोकता है?

Options :

- ✘ अनुच्छेद 20
- ✔ अनुच्छेद 15
- ✘ अनुच्छेद 23
- ✘ अनुच्छेद 18

Question Number : 78 Question Id : 9662316092 Question Type : MCQ Option Shuffling : Yes Display Question Number : Yes
Single Line Question Option : No Option Orientation : Vertical

Correct Marks : 1 Wrong Marks : 0.25

----- टेबल टेनिस रैंकिंग के शीर्ष 25 में प्रवेश करने वाला पहला भारतीय है।

Options :

- ✔ साथियान गणानाशेखरन
- ✘ मनिका बत्रा
- ✘ पौलोमी घटक
- ✘ एंथोनी अमलराज

Question Number : 78 Question Id : 9662316092 Question Type : MCQ Option Shuffling : Yes Display Question Number : Yes
Single Line Question Option : No Option Orientation : Vertical

Correct Marks : 1 Wrong Marks : 0.25

----- is the first Indian to enter in top 25 of table tennis rankings.

Options :

- ✔ Sathiyam Gnanasekaran
- ✘ Manika Batra
- ✘ Poulomi Ghatak
- ✘ Anthony Amalraj

Question Number : 79 Question Id : 9662316093 Question Type : MCQ Option Shuffling : Yes Display Question Number : Yes
Single Line Question Option : No Option Orientation : Vertical

Correct Marks : 1 Wrong Marks : 0.25

Who won the gold medal at the Grand Prix of Spain Women's Wrestling in the 53 kg category?

Options :

- ✘ Manju Kumari
- ✘ Divya Kakran
- ✔ Vinesh Phogat
- ✘ Pooja Dhanda

Question Number : 79 Question Id : 9662316093 Question Type : MCQ Option Shuffling : Yes Display Question Number : Yes
Single Line Question Option : No Option Orientation : Vertical

Correct Marks : 1 Wrong Marks : 0.25

53 kg वर्ग में स्पेन महिला कुश्ती के ग्रां प्री में स्वर्ण पदक किसने जीता?

Options :

1. ✘ मंजू कुमारी
2. ✘ दिव्या काकरान
3. ✔ विनेश फौगाट
4. ✘ पूजा ढांडा

Question Number : 80 Question Id : 9662316094 Question Type : MCQ Option Shuffling : Yes Display Question Number : Yes
Single Line Question Option : No Option Orientation : Vertical

Correct Marks : 1 Wrong Marks : 0.25

Who won the gold medal at the Grand Prix of Spain Women's Wrestling in the 68 kg category?

Options :

1. ✘ Manju Kumari
2. ✔ Divya Kakran
3. ✘ Vinesh Phogat
4. ✘ Pooja Dhanda

Question Number : 80 Question Id : 9662316094 Question Type : MCQ Option Shuffling : Yes Display Question Number : Yes
Single Line Question Option : No Option Orientation : Vertical

Correct Marks : 1 Wrong Marks : 0.25

68 kg वर्ग में स्पेन महिला कुश्ती के ग्रां प्री में स्वर्ण पदक किसने जीता?

Options :

1. ✘ मंजू कुमारी
2. ✔ दिव्या काकरान
3. ✘ विनेश फौगाट
4. ✘ पूजा ढांडा

Arithmetic Ability1

Group Number :	5
Group Id :	96623198
Group Maximum Duration :	0
Group Minimum Duration :	0
Revisit allowed for view? :	No
Revisit allowed for edit? :	No
Break time:	0
Group Marks:	20
Revisit allowed for group Instructions? :	Yes
Maximum Instruction Time:	0
Minimum Instruction Time:	0

Arithmetic Ability1

Section Id :	966231213
Section Number :	1
Section type :	Online

Mandatory or Optional:	Mandatory
Number of Questions:	20
Number of Questions to be attempted:	20
Section Marks:	20
Display Number Panel:	Yes
Group All Questions:	No

Sub-Section Number:	1
Sub-Section Id:	966231227
Question Shuffling Allowed :	Yes

Question Number : 81 Question Id : 9662316095 Question Type : MCQ Option Shuffling : Yes Display Question Number : Yes
Single Line Question Option : No Option Orientation : Vertical

Correct Marks : 1 Wrong Marks : 0.25

Find the value of: $(18 \text{ of } 8 / 9) + [(14 \times (18/6) - 36) \times 4]$

Options :

1. ✘ 32
2. ✘ 36
3. ✔ 40
4. ✘ 44

Question Number : 81 Question Id : 9662316095 Question Type : MCQ Option Shuffling : Yes Display Question Number : Yes
Single Line Question Option : No Option Orientation : Vertical

Correct Marks : 1 Wrong Marks : 0.25

$(8/9 \text{ का } 18) + [(14 \times (18/6) - 36) \times 4]$ का मूल्य ज्ञात करें

Options :

1. ✘ 32
2. ✘ 36
3. ✔ 40
4. ✘ 44

Question Number : 82 Question Id : 9662316096 Question Type : MCQ Option Shuffling : Yes Display Question Number : Yes
Single Line Question Option : No Option Orientation : Vertical

Correct Marks : 1 Wrong Marks : 0.25

Simplify: $\sqrt{(1+\sqrt{(3+\sqrt{(25+\sqrt{(100+\sqrt{441}})})})})} = ?$

Options :

1. ✘ 1
2. ✔ 2
3. ✘ 3
4. ✘ 4

Question Number : 82 Question Id : 9662316096 Question Type : MCQ Option Shuffling : Yes Display Question Number : Yes
Single Line Question Option : No Option Orientation : Vertical

Correct Marks : 1 Wrong Marks : 0.25

सरल करें : $\sqrt{(1+\sqrt{(3+\sqrt{(25+\sqrt{(100+\sqrt{441}})})})})} = ?$

Options :

1. ✘ 1
2. ✔ 2

3. ✖ 3

4. ✖ 4

Question Number : 83 Question Id : 9662316097 Question Type : MCQ Option Shuffling : Yes Display Question Number : Yes
Single Line Question Option : No Option Orientation : Vertical

Correct Marks : 1 Wrong Marks : 0.25

Simplify: $19 \times 6 \div 2 + 3 = ?$

Options :

1. ✖ 58

2. ✔ 60

3. ✖ 62

4. ✖ 56

Question Number : 83 Question Id : 9662316097 Question Type : MCQ Option Shuffling : Yes Display Question Number : Yes
Single Line Question Option : No Option Orientation : Vertical

Correct Marks : 1 Wrong Marks : 0.25

सरल करें: $19 \times 6 \div 2 + 3 = ?$

Options :

1. ✖ 58

2. ✔ 60

3. ✖ 62

4. ✖ 56

Question Number : 84 Question Id : 9662316098 Question Type : MCQ Option Shuffling : Yes Display Question Number : Yes
Single Line Question Option : No Option Orientation : Vertical

Correct Marks : 1 Wrong Marks : 0.25

2 numbers differ by 10 and their HCF and LCM are 10 and 200 respectively. Find the square of the sum of the numbers.

Options :

1. ✖ 6400

2. ✔ 8100

3. ✖ 8000

4. ✖ 9000

Question Number : 84 Question Id : 9662316098 Question Type : MCQ Option Shuffling : Yes Display Question Number : Yes
Single Line Question Option : No Option Orientation : Vertical

Correct Marks : 1 Wrong Marks : 0.25

2 संख्याएं 10 से भिन्न होती हैं और उनके महत्तम समापवर्तक और लघुत्तम समापवर्तक क्रमशः 10 और 200 होते हैं। संख्याओं के योग का वर्ग ज्ञात करें।

Options :

1. ✖ 6400

2. ✔ 8100

3. ✖ 8000

4. ✖ 9000

Question Number : 85 Question Id : 9662316099 Question Type : MCQ Option Shuffling : Yes Display Question Number : Yes
Single Line Question Option : No Option Orientation : Vertical

Correct Marks : 1 Wrong Marks : 0.25

How many significant digits will be there to the right side of the decimal point in the resultant product of 4.544 and 5.455?

Options :

1. ✓ 5
2. ✗ 6
3. ✗ 7
4. ✗ 4

Question Number : 85 Question Id : 9662316099 Question Type : MCQ Option Shuffling : Yes Display Question Number : Yes
Single Line Question Option : No Option Orientation : Vertical

Correct Marks : 1 Wrong Marks : 0.25

4.544 और 5.455 के परिणामी उत्पाद में दशमलव बिंदु के दाईं ओर कितने महत्वपूर्ण अंक होंगे?

Options :

1. ✓ 5
2. ✗ 6
3. ✗ 7
4. ✗ 4

Question Number : 86 Question Id : 9662316100 Question Type : MCQ Option Shuffling : Yes Display Question Number : Yes
Single Line Question Option : No Option Orientation : Vertical

Correct Marks : 1 Wrong Marks : 0.25

What is the value of $(7.3 \times 7.3 - 5.8 \times 5.8) \div (1.5 \times 13.1)$?

Options :

1. ✗ 0.5
2. ✗ 0.75
3. ✓ 1
4. ✗ 1.25

Question Number : 86 Question Id : 9662316100 Question Type : MCQ Option Shuffling : Yes Display Question Number : Yes
Single Line Question Option : No Option Orientation : Vertical

Correct Marks : 1 Wrong Marks : 0.25

$(7.3 \times 7.3 - 5.8 \times 5.8) \div (1.5 \times 13.1)$ का मूल्य क्या है?

Options :

1. ✗ 0.5
2. ✗ 0.75
3. ✓ 1
4. ✗ 1.25

Question Number : 87 Question Id : 9662316101 Question Type : MCQ Option Shuffling : Yes Display Question Number : Yes
Single Line Question Option : No Option Orientation : Vertical

Correct Marks : 1 Wrong Marks : 0.25

In order to obtain tax benefits, a man starts investing in government schemes, A and B. He invested a total of Rs 85,000 in both the schemes. Scheme A provides a return on 6 percent whereas scheme B provides a return on 5 percent. If the interest gained over 1 year is Rs 4,650, then how much did he invest in A?

Options :

1. ✗ Rs 30000
2. ✗ Rs 36000
3. ✓ Rs 40000
4. ✗ Rs 45000

Question Number : 87 Question Id : 9662316101 Question Type : MCQ Option Shuffling : Yes Display Question Number : Yes
Single Line Question Option : No Option Orientation : Vertical

Correct Marks : 1 Wrong Marks : 0.25

कर लाभ प्राप्त करने के लिए, एक व्यक्ति सरकारी योजनाएं A और B में निवेश करना शुरू कर देता है। उसने दोनों योजनाओं में कुल 85000 रुपए का निवेश किया। योजना A 6 प्रतिशत पर प्रतिफल प्रदान करती है जबकि योजना B 5 प्रतिशत का प्रतिफल प्रदान करती है। यदि 1 वर्ष से अधिक का ब्याज 4650 रुपए है, तो उसने A में कितना निवेश किया है?

Options :

1. ✘ 30000 रुपए
2. ✘ 36000 रुपए
3. ✔ 40000 रुपए
4. ✘ 45000 रुपए

Question Number : 88 Question Id : 9662316102 Question Type : MCQ Option Shuffling : Yes Display Question Number : Yes
Single Line Question Option : No Option Orientation : Vertical

Correct Marks : 1 Wrong Marks : 0.25

A farmer raises bulls and birds. The birds and animals on his farm has a total of 130 heads and 380 legs. Find the number of birds he has.

Options :

1. ✘ 50
2. ✘ 60
3. ✔ 70
4. ✘ 80

Question Number : 88 Question Id : 9662316102 Question Type : MCQ Option Shuffling : Yes Display Question Number : Yes
Single Line Question Option : No Option Orientation : Vertical

Correct Marks : 1 Wrong Marks : 0.25

एक किसान बैल और पक्षियों को पालता है। उसके खेत पर पक्षियों और जानवरों के कुल 130 सिर और 380 पैर हैं। पक्षियों की संख्या को ज्ञात करें।

Options :

1. ✘ 50
2. ✘ 60
3. ✔ 70
4. ✘ 80

Question Number : 89 Question Id : 9662316103 Question Type : MCQ Option Shuffling : Yes Display Question Number : Yes
Single Line Question Option : No Option Orientation : Vertical

Correct Marks : 1 Wrong Marks : 0.25

X works in a factory where Rs 20 are paid for a normal working hour and Rs 30 is paid for an overtime working hour. A regular week comprises of 5 days of 10 working hours. If the man earns Rs 5200 in 4 weeks, then for how many hours did he work in total?

Options :

1. ✘ 200
2. ✘ 225
3. ✘ 250
4. ✔ 240

Question Number : 89 Question Id : 9662316103 Question Type : MCQ Option Shuffling : Yes Display Question Number : Yes
Single Line Question Option : No Option Orientation : Vertical

Correct Marks : 1 Wrong Marks : 0.25

X एक फैक्ट्री में काम करता है जहाँ सामान्य कार्य के लिए 20 रुपए घंटे और समयोपरि के लिए 30 रुपए घंटे का भुगतान किया जाता है। एक नियमित सप्ताह में 10 कार्य घंटों के 5 दिन शामिल होते हैं। यदि आदमी 4 सप्ताह में 5200 रुपए कमाता है, तो उसने कुल कितने घंटे काम किया?

Options :

1. ✘ 200
2. ✘ 225
3. ✘ 250
4. ✔ 240

Question Number : 90 Question Id : 9662316104 Question Type : MCQ Option Shuffling : Yes Display Question Number : Yes
Single Line Question Option : No Option Orientation : Vertical

Correct Marks : 1 Wrong Marks : 0.25

Which of the following is equivalent to $0.125 \times 1 \div 1.6 \times 2560 \times 0.005 \div 0.04 = ?$

Options :

1. ✔ 25
2. ✘ 250
3. ✘ 20
4. ✘ 2

Question Number : 90 Question Id : 9662316104 Question Type : MCQ Option Shuffling : Yes Display Question Number : Yes
Single Line Question Option : No Option Orientation : Vertical

Correct Marks : 1 Wrong Marks : 0.25

निम्नलिखित में से कौन सा $0.125 \times 1 \div 1.6 \times 2560 \times 0.005 \div 0.04$ के बराबर है?

Options :

1. ✔ 25
2. ✘ 250
3. ✘ 20
4. ✘ 2

Question Number : 91 Question Id : 9662316105 Question Type : MCQ Option Shuffling : Yes Display Question Number : Yes
Single Line Question Option : No Option Orientation : Vertical

Correct Marks : 1 Wrong Marks : 0.25

A group of 4 children A, B, C and D have different number of books with them. A has $1/4$ th of the books with B. B has $1/3$ rd of the books with C and C has twice the number of books with D. If D has 60 books, then what is the average number of books in the group?

Options :

1. ✘ 53.25
2. ✔ 57.5
3. ✘ 53.75
4. ✘ 54.25

Question Number : 91 Question Id : 9662316105 Question Type : MCQ Option Shuffling : Yes Display Question Number : Yes
Single Line Question Option : No Option Orientation : Vertical

Correct Marks : 1 Wrong Marks : 0.25

4 बच्चों के समूह A, B, C और D के पास अलग-अलग संख्या में किताबें हैं। A के पास B के साथ $1/4$ पुस्तकें हैं। B के पास C के साथ $1/3$ पुस्तकें हैं और C के पास D के साथ संख्या की दोगुना पुस्तकें हैं। यदि D के पास 60 पुस्तकें हैं, तो समूह में पुस्तकों की औसत संख्या क्या है?

Options :

1. ✘ 53.25
2. ✔ 57.5
3. ✘ 53.75
4. ✘ 54.25

Question Number : 92 Question Id : 9662316106 Question Type : MCQ Option Shuffling : Yes Display Question Number : Yes
Single Line Question Option : No Option Orientation : Vertical

Correct Marks : 1 Wrong Marks : 0.25

A group of friends comprise of 4 boys and 4 girls with an average weight of 66 kgs. If the average weight of 3 boys and 3 girls is 62 kgs and 74 kgs respectively, then what is the average weight of the remaining 1 boy and 1 girl?

Options :

1. ✓ 60 kg
2. ✗ 61 kg
3. ✗ 61.5 kg
4. ✗ 60.5 kg

Question Number : 92 Question Id : 9662316106 Question Type : MCQ Option Shuffling : Yes Display Question Number : Yes
Single Line Question Option : No Option Orientation : Vertical

Correct Marks : 1 Wrong Marks : 0.25

दोस्तों के एक समूह में 4 लड़का और 4 लड़कियां शामिल हैं जिनका औसत वजन 66 kg है। यदि 3 लड़कों और 3 लड़कियों का औसत वजन क्रमशः 62kg और 74 kg है, तो शेष 1 लड़के और 1 लड़की का औसत वजन क्या है?

Options :

1. ✓ 60 kg
2. ✗ 61 kg
3. ✗ 61.5 kg
4. ✗ 60.5 kg

Question Number : 93 Question Id : 9662316107 Question Type : MCQ Option Shuffling : Yes Display Question Number : Yes
Single Line Question Option : No Option Orientation : Vertical

Correct Marks : 1 Wrong Marks : 0.25

What should be the average rate of scoring runs if a cricket team has scored 175 in 15 overs and has to score a total of 240 in 20 overs?

Options :

1. ✓ 13
2. ✗ 12
3. ✗ 11
4. ✗ 14

Question Number : 93 Question Id : 9662316107 Question Type : MCQ Option Shuffling : Yes Display Question Number : Yes
Single Line Question Option : No Option Orientation : Vertical

Correct Marks : 1 Wrong Marks : 0.25

यदि क्रिकेट टीम ने 15 ओवरों में 175 रन बनाए हैं और 20 ओवरों में कुल 240 रन बनाने हैं, तो रन बनाने की औसत क्या होगी?

Options :

1. ✓ 13
2. ✗ 12
3. ✗ 11
4. ✗ 14

Question Number : 94 Question Id : 9662316108 Question Type : MCQ Option Shuffling : Yes Display Question Number : Yes
Single Line Question Option : No Option Orientation : Vertical

Correct Marks : 1 Wrong Marks : 0.25

A piece of cloth was sold at an effective discount of 50 percent. It was a result of 2 successive discounts. If the first discount was 25 percent, then how much was the second discount?

Options :

- ✘ 25 percent
- ✘ 40 percent
- ✘ 30 percent
- ✔ 33.33 percent

Question Number : 94 Question Id : 9662316108 Question Type : MCQ Option Shuffling : Yes Display Question Number : Yes Single Line Question Option : No Option Orientation : Vertical

Correct Marks : 1 Wrong Marks : 0.25

कपड़े का एक टुकड़ा 50 प्रतिशत की प्रभावी छूट पर बेचा गया था। यह 2 क्रमिक छूटों का परिणाम था। यदि पहली छूट 25 प्रतिशत थी, तो दूसरी छूट कितनी थी?

Options :

- ✘ 25 प्रतिशत
- ✘ 40 प्रतिशत
- ✘ 30 प्रतिशत
- ✔ 33.33 प्रतिशत

Question Number : 95 Question Id : 9662316109 Question Type : MCQ Option Shuffling : Yes Display Question Number : Yes Single Line Question Option : No Option Orientation : Vertical

Correct Marks : 1 Wrong Marks : 0.25

X while performing an experiment had to multiply a variable by 5 but had divided by 5 instead. What is his error percentage?

Options :

- ✔ 96 percent
- ✘ 100 percent
- ✘ 90 percent
- ✘ 92 percent

Question Number : 95 Question Id : 9662316109 Question Type : MCQ Option Shuffling : Yes Display Question Number : Yes Single Line Question Option : No Option Orientation : Vertical

Correct Marks : 1 Wrong Marks : 0.25

X प्रयोग करते समय एक चर को 5 से गुणा करना था लेकिन इसके बजाय 5 से विभाजित किया था। उसका त्रुटि प्रतिशत क्या है?

Options :

- ✔ 96 प्रतिशत
- ✘ 100 प्रतिशत
- ✘ 90 प्रतिशत
- ✘ 92 प्रतिशत

Question Number : 96 Question Id : 9662316110 Question Type : MCQ Option Shuffling : Yes Display Question Number : Yes Single Line Question Option : No Option Orientation : Vertical

Correct Marks : 1 Wrong Marks : 0.25

A computer was bought for Rs 40000. Its value depreciated over 3 years at the rate of 10 percent in the 1st year, 11.11 percent in the 2nd year and 12.50 percent in the 3rd year. What is the present value of the computer?

Options :

- ✘ Rs 20000
- ✘ Rs 24000
- ✘ Rs 25000
- ✔ Rs 28000

Question Number : 96 Question Id : 9662316110 Question Type : MCQ Option Shuffling : Yes Display Question Number : Yes
Single Line Question Option : No Option Orientation : Vertical

Correct Marks : 1 Wrong Marks : 0.25

एक कंप्यूटर को 40000 रुपए में खरीदा गया था। इसका मूल्य 3 वर्ष में घट गया। पहला वर्ष 10 प्रतिशत से घट गया, दूसरे वर्ष में 11.11 प्रतिशत और तीसरे वर्ष में 12.50 प्रतिशत था। कंप्यूटर का वर्तमान मूल्य क्या है?

Options :

1. ✘ 20000 रुपए
2. ✘ 24000 रुपए
3. ✘ 25000 रुपए
4. ✔ 28000 रुपए

Question Number : 97 Question Id : 9662316111 Question Type : MCQ Option Shuffling : Yes Display Question Number : Yes
Single Line Question Option : No Option Orientation : Vertical

Correct Marks : 1 Wrong Marks : 0.25

A laptop was bought for Rs 45000 and Rs 5000 was spent on its maintenance. After a while, it was sold for Rs 40000. How much loss was incurred?

Options :

1. ✔ 20 percent
2. ✘ 25 percent
3. ✘ 30 percent
4. ✘ 35 percent

Question Number : 97 Question Id : 9662316111 Question Type : MCQ Option Shuffling : Yes Display Question Number : Yes
Single Line Question Option : No Option Orientation : Vertical

Correct Marks : 1 Wrong Marks : 0.25

एक लैपटॉप 45000 रुपए में खरीदा गया था और इसके रखरखाव पर 5000 रुपए खर्च किए गए थे। कुछ देर बाद, इसे 40000 रुपए में बेचा गया। कितना नुकसान हुआ?

Options :

1. ✔ 20 प्रतिशत
2. ✘ 25 प्रतिशत
3. ✘ 30 प्रतिशत
4. ✘ 35 प्रतिशत

Question Number : 98 Question Id : 9662316112 Question Type : MCQ Option Shuffling : Yes Display Question Number : Yes
Single Line Question Option : No Option Orientation : Vertical

Correct Marks : 1 Wrong Marks : 0.25

The percent of profit earned on selling a laptop for Rs 15000 is the same as the percent of loss incurred on selling the laptop for Rs 9000. Find the price at which it should be sold to gain 50 percent?

Options :

1. ✘ Rs 23000
2. ✘ Rs 24000
3. ✔ Rs 18000
4. ✘ Rs 21000

Question Number : 98 Question Id : 9662316112 Question Type : MCQ Option Shuffling : Yes Display Question Number : Yes
Single Line Question Option : No Option Orientation : Vertical

Correct Marks : 1 Wrong Marks : 0.25

15000 रुपए में लैपटॉप बेचने पर होने वाले लाभ का प्रतिशत वही है जो लैपटॉप को 9000 रुपए में बेचने पर होने वाले नुकसान का प्रतिशत है। उस मूल्य को ज्ञात करें जिस पर इसे 50 प्रतिशत हासिल करने के लिए बेचा जाना चाहिए?

Options :

- ✘ 23000 रुपए
- ✘ 24000 रुपए
- ✔ 18000 रुपए
- ✘ 21000 रुपए

Question Number : 99 Question Id : 9662316113 Question Type : MCQ Option Shuffling : Yes Display Question Number : Yes
Single Line Question Option : No Option Orientation : Vertical

Correct Marks : 1 Wrong Marks : 0.25

15 scores of bolts were purchased for Rs 4500. They were sold in packs of half-a-dozen each. Each pack was sold for Rs 135. What is the overall profit percent?

Options :

- ✘ 25 percent
- ✘ 45 percent
- ✘ 60 percent
- ✔ 50 percent

Question Number : 99 Question Id : 9662316113 Question Type : MCQ Option Shuffling : Yes Display Question Number : Yes
Single Line Question Option : No Option Orientation : Vertical

Correct Marks : 1 Wrong Marks : 0.25

बोल्ट के 15 स्कोर 4500 रुपए में खरीदे गए थे वे प्रत्येक के आधा दर्जन पैक में बेचे गए थे प्रत्येक पैक को 135 रुपए में बेचा गया था कुल लाभ प्रतिशत क्या है?

Options :

- ✘ 25 प्रतिशत
- ✘ 45 प्रतिशत
- ✘ 60 प्रतिशत
- ✔ 50 प्रतिशत

Question Number : 100 Question Id : 9662316114 Question Type : MCQ Option Shuffling : Yes Display Question Number : Yes
Single Line Question Option : No Option Orientation : Vertical

Correct Marks : 1 Wrong Marks : 0.25

X is a 18 months older than Y. If Y is 6 years old, what is the ratio of the ages of X and Y?

Options :

- ✘ 7:6
- ✘ 6:5
- ✘ 3:4
- ✔ 5:4

Question Number : 100 Question Id : 9662316114 Question Type : MCQ Option Shuffling : Yes Display Question Number : Yes
Single Line Question Option : No Option Orientation : Vertical

Correct Marks : 1 Wrong Marks : 0.25

X, Y से 18 महीने बड़ा है। यदि Y 6 वर्ष का है, तो X और Y की आयु का अनुपात क्या है?

Options :

- ✘ 7 : 6
- ✘ 6 : 5
- ✘ 3 : 4
- ✔ 5 : 4

Arithmetic Ability2

Group Number :	6
Group Id :	96623199
Group Maximum Duration :	0
Group Minimum Duration :	0
Revisit allowed for view? :	No
Revisit allowed for edit? :	No
Break time:	0
Group Marks:	20
Revisit allowed for group Instructions? :	Yes
Maximum Instruction Time:	0
Minimum Instruction Time:	0

Arithmetic Ability2

Section Id :	966231214
Section Number :	1
Section type :	Online
Mandatory or Optional:	Mandatory
Number of Questions:	20
Number of Questions to be attempted:	20
Section Marks:	20
Display Number Panel:	Yes
Group All Questions:	No

Sub-Section Number:	1
Sub-Section Id:	966231228
Question Shuffling Allowed :	Yes

Question Number : 101 Question Id : 9662316115 Question Type : MCQ Option Shuffling : Yes Display Question Number : Yes
Single Line Question Option : No Option Orientation : Vertical
Correct Marks : 1 Wrong Marks : 0.25

A train and a car start together from a point and the time required by them to reach a certain distance is in the ratio of 4:5. What is the ratio of their speeds?

Options :

- ✘ 7:6
- ✘ 6:5
- ✘ 3:4
- ✔ 5:4

Question Number : 101 Question Id : 9662316115 Question Type : MCQ Option Shuffling : Yes Display Question Number : Yes
Single Line Question Option : No Option Orientation : Vertical
Correct Marks : 1 Wrong Marks : 0.25

एक रेलगाड़ी और एक कार एक बिंदु से शुरू होती है और एक निश्चित दूरी तक पहुंचने के लिए उनके द्वारा आवश्यक समय 4:5 के अनुपात में होता है उनकी गति का अनुपात क्या है?

Options :

- ✘ 7:6
- ✘ 6:5
- ✘ 3:4
- ✔ 5:4

Question Number : 102 Question Id : 9662316116 Question Type : MCQ Option Shuffling : Yes Display Question Number : Yes
Single Line Question Option : No Option Orientation : Vertical

Correct Marks : 1 Wrong Marks : 0.25

34 is divided into two positive parts such that double the square root of the bigger number is 1 more than the smaller number. Find the square of the smaller number.

Options :

1. ✘ 49
2. ✘ 64
3. ✔ 81
4. ✘ 100

Question Number : 102 Question Id : 9662316116 Question Type : MCQ Option Shuffling : Yes Display Question Number : Yes
Single Line Question Option : No Option Orientation : Vertical

Correct Marks : 1 Wrong Marks : 0.25

34 को दो धनात्मक भागों में विभाजित किया गया है जैसे कि दोगुना बड़ी संख्या का वर्गमूल छोटी संख्या से 1 अधिक है। छोटी संख्या का वर्ग ज्ञात करें।

Options :

1. ✘ 49
2. ✘ 64
3. ✔ 81
4. ✘ 100

Question Number : 103 Question Id : 9662316117 Question Type : MCQ Option Shuffling : Yes Display Question Number : Yes
Single Line Question Option : No Option Orientation : Vertical

Correct Marks : 1 Wrong Marks : 0.25

What was the simple interest earned on Rs 10000 at 20 percent p.a. from 1st January 2018 to 26th May 2018?

Options :

1. ✘ Rs 2000
2. ✘ Rs 1600
3. ✔ Rs 800
4. ✘ Rs 1200

Question Number : 103 Question Id : 9662316117 Question Type : MCQ Option Shuffling : Yes Display Question Number : Yes
Single Line Question Option : No Option Orientation : Vertical

Correct Marks : 1 Wrong Marks : 0.25

1 जनवरी 2018 से 26 मई 2018 तक 10000 रुपए पर 20 प्रतिशत वार्षिक की दर से अर्जित साधारण ब्याज क्या था?

Options :

1. ✘ 2000 रुपए
2. ✘ 1600 रुपए
3. ✔ 800 रुपए
4. ✘ 1200 रुपए

Question Number : 104 Question Id : 9662316118 Question Type : MCQ Option Shuffling : Yes Display Question Number : Yes
Single Line Question Option : No Option Orientation : Vertical

Correct Marks : 1 Wrong Marks : 0.25

At what rate of simple interest will Rs 640 yield Rs 160 as interest after 4 years?

Options :

1. ✘ 5.25 percent
2. ✘ 6 percent

3. ✓ 6.25 percent

4. ✗ 7 percent

Question Number : 104 Question Id : 9662316118 Question Type : MCQ Option Shuffling : Yes Display Question Number : Yes Single Line Question Option : No Option Orientation : Vertical

Correct Marks : 1 Wrong Marks : 0.25

4 साल के बाद साधारण ब्याज की दर पर ब्याज के रूप में 640 रुपए से 160 रुपए क्या होगा?

Options :

1. ✗ 5.25 प्रतिशत

2. ✗ 6 प्रतिशत

3. ✓ 6.25 प्रतिशत

4. ✗ 7 प्रतिशत

Question Number : 105 Question Id : 9662316119 Question Type : MCQ Option Shuffling : Yes Display Question Number : Yes Single Line Question Option : No Option Orientation : Vertical

Correct Marks : 1 Wrong Marks : 0.25

The simple interest on a certain principal for 4 years at 20 percent interest rate is Rs 2000. What is the compound interest on the same principal for half the time and double the interest rate?

Options :

1. ✗ Rs 2000

2. ✗ Rs 2500

3. ✓ Rs 2400

4. ✗ Rs 2800

Question Number : 105 Question Id : 9662316119 Question Type : MCQ Option Shuffling : Yes Display Question Number : Yes Single Line Question Option : No Option Orientation : Vertical

Correct Marks : 1 Wrong Marks : 0.25

20 साल की ब्याज दर पर 4 साल के लिए एक निश्चित मूलधन पर साधारण ब्याज 2000 रुपए है। आधे समय के लिए एक ही मूलधन और दोगुना ब्याज दर पर चक्रवृद्धि ब्याज क्या है?

Options :

1. ✗ 2000 रुपए

2. ✗ 2500 रुपए

3. ✓ 2400 रुपए

4. ✗ 2800 रुपए

Question Number : 106 Question Id : 9662316120 Question Type : MCQ Option Shuffling : Yes Display Question Number : Yes Single Line Question Option : No Option Orientation : Vertical

Correct Marks : 1 Wrong Marks : 0.25

A man travels alone for sometime. He covers 360 kms in a car at 90 km/h, then travels for 240 kms in a train at 60 km/h and lastly covers 120 kms on a bike at 60 km/h. What is his average speed while travelling?

Options :

1. ✓ 20 m/s

2. ✗ 27 m/s

3. ✗ 30 m/s

4. ✗ 35 m/s

Question Number : 106 Question Id : 9662316120 Question Type : MCQ Option Shuffling : Yes Display Question Number : Yes Single Line Question Option : No Option Orientation : Vertical

Correct Marks : 1 Wrong Marks : 0.25

एक आदमी कुछ समय के लिए अकेले यात्रा करता है वह 90 km/h की रफ्तार से एक कार में 360 km की दूरी तय करता है, फिर 60 km/h की रफ्तार से रेलगाड़ी में 240 km का सफर तय करता है और 60 km/h की रफ्तार में बाइक पर 120 km की दूरी तय करता है यात्रा करते समय उसकी औसत गति क्या है?

Options :

- ✓ 20 m/s
- ✗ 27 m/s
- ✗ 30 m/s
- ✗ 35 m/s

Question Number : 107 Question Id : 9662316121 Question Type : MCQ Option Shuffling : Yes Display Question Number : Yes Single Line Question Option : No Option Orientation : Vertical

Correct Marks : 1 Wrong Marks : 0.25

The ratio of speeds of 2 trains is 8:9. If the first train covers 480 kms in 5 hours, then what is the speed of the second train?

Options :

- ✗ 20 m/s
- ✗ 27 m/s
- ✓ 30 m/s
- ✗ 35 m/s

Question Number : 107 Question Id : 9662316121 Question Type : MCQ Option Shuffling : Yes Display Question Number : Yes Single Line Question Option : No Option Orientation : Vertical

Correct Marks : 1 Wrong Marks : 0.25

2 रेलगाड़ियों की गति का अनुपात 8:9 है यदि पहली रेलगाड़ी 5 घंटे में 480 km की दूरी तय करती है, तो दूसरी रेलगाड़ी km की गति क्या है?

Options :

- ✗ 20 m/s
- ✗ 27 m/s
- ✓ 30 m/s
- ✗ 35 m/s

Question Number : 108 Question Id : 9662316122 Question Type : MCQ Option Shuffling : Yes Display Question Number : Yes Single Line Question Option : No Option Orientation : Vertical

Correct Marks : 1 Wrong Marks : 0.25

A car and a train start from the same point. The speed of the train is 80 km/h and that of the car is 60 km/h. The train reaches the destination without stopping anywhere in 10 hours. For the first 6 hours, the car runs at its usual speed. By how much should the speed increase for the next 4 hours in order to catch up with the train?

Options :

- ✗ 125 km/h
- ✓ 50 km/h
- ✗ 80 km/h
- ✗ 110 km/h

Question Number : 108 Question Id : 9662316122 Question Type : MCQ Option Shuffling : Yes Display Question Number : Yes Single Line Question Option : No Option Orientation : Vertical

Correct Marks : 1 Wrong Marks : 0.25

एक कार और एक रेलगाड़ी एक ही बिंदु से शुरू होती है रेलगाड़ी की गति 80 km/h है और कार की गति 60 km/h है रेलगाड़ी 10 घंटे में बिना रुके गंतव्य तक पहुँच जाती है पहले 6 घंटों के लिए, कार अपनी सामान्य गति से चलती है रेलगाड़ी के साथ आने के लिए 4 घंटों के लिए गति कितनी बढ़नी चाहिए?

Options :

1. ✘ 125 km/h
2. ✔ 50 km/h
3. ✘ 80 km/h
4. ✘ 110 km/h

Question Number : 109 Question Id : 9662316123 Question Type : MCQ Option Shuffling : Yes Display Question Number : Yes Single Line Question Option : No Option Orientation : Vertical

Correct Marks : 1 Wrong Marks : 0.25

Y started working on a job which would take 28 days to complete all by himself. He worked on it for 21 days and left it. X could have finished the task in 40 days all by himself. Now, he resumes the leftover task by Y and finishes it. How many days did X take to finish the incomplete task?

Options :

1. ✘ 12
2. ✔ 10
3. ✘ 18
4. ✘ 15

Question Number : 109 Question Id : 9662316123 Question Type : MCQ Option Shuffling : Yes Display Question Number : Yes Single Line Question Option : No Option Orientation : Vertical

Correct Marks : 1 Wrong Marks : 0.25

Y ने एक ऐसे कार्य पर काम करना शुरू कर दिया, जिसे पूरा करने में 28 दिन लगेंगे। उसने 21 दिनों तक उस पर काम किया और उसे छोड़ दिया। X 40 दिनों में कार्य को स्वयं पूरा कर सकता था। अब, वह Y द्वारा बचे हुए कार्य को फिर से शुरू करता है और इसे पूरा करता है। अधूरे कार्य को पूरा करने में X को कितने दिन लगे?

Options :

1. ✘ 12
2. ✔ 10
3. ✘ 18
4. ✘ 15

Question Number : 110 Question Id : 9662316124 Question Type : MCQ Option Shuffling : Yes Display Question Number : Yes Single Line Question Option : No Option Orientation : Vertical

Correct Marks : 1 Wrong Marks : 0.25

D and E can together finish a task in 40 days. D can finish the task alone in 80 days. In how many days can E finish 25 percent of task alone?

Options :

1. ✘ 24
2. ✘ 36
3. ✘ 30
4. ✔ 20

Question Number : 110 Question Id : 9662316124 Question Type : MCQ Option Shuffling : Yes Display Question Number : Yes Single Line Question Option : No Option Orientation : Vertical

Correct Marks : 1 Wrong Marks : 0.25

D और E मिलकर किसी कार्य को 40 दिनों में पूरा कर सकते हैं। D 80 दिनों में अकेले कार्य पूरा कर सकता है। E कितने दिनों में अकेले 25 प्रतिशत कार्य पूरा कर सकता है?

Options :

1. ✘ 24
2. ✘ 36
3. ✘ 30

4. ✓ 20

Question Number : 111 Question Id : 9662316125 Question Type : MCQ Option Shuffling : Yes Display Question Number : Yes
Single Line Question Option : No Option Orientation : Vertical

Correct Marks : 1 Wrong Marks : 0.25

J can finish a task in 60 days. K is 100 percent more efficient than J and L is 50 percent more efficient than K. While working together, in how many days can they finish the task?

Options :

1. ✗ 12

2. ✓ 10

3. ✗ 18

4. ✗ 15

Question Number : 111 Question Id : 9662316125 Question Type : MCQ Option Shuffling : Yes Display Question Number : Yes
Single Line Question Option : No Option Orientation : Vertical

Correct Marks : 1 Wrong Marks : 0.25

J किसी कार्य को 60 दिनों में पूरा कर सकता है K, J की तुलना में 100 प्रतिशत अधिक कुशल है और L, K की तुलना में 50 प्रतिशत अधिक कुशल है एक साथ काम करते हुए, वे कितने दिनों में कार्य पूरा कर सकते हैं?

Options :

1. ✗ 12

2. ✓ 10

3. ✗ 18

4. ✗ 15

Question Number : 112 Question Id : 9662316126 Question Type : MCQ Option Shuffling : Yes Display Question Number : Yes
Single Line Question Option : No Option Orientation : Vertical

Correct Marks : 1 Wrong Marks : 0.25

A cuboid whose length and breadth measure 27 cms and 81 cms respectively is made from a cube whose diagonal is $54\sqrt{3}$ cms. Find the height of the cuboid.

Options :

1. ✗ 51 cm

2. ✓ 72 cm

3. ✗ 63 cm

4. ✗ 54 cm

Question Number : 112 Question Id : 9662316126 Question Type : MCQ Option Shuffling : Yes Display Question Number : Yes
Single Line Question Option : No Option Orientation : Vertical

Correct Marks : 1 Wrong Marks : 0.25

एक घनाभ जिसकी लंबाई और चौड़ाई क्रमशः 27 cm और 81 cm है, एक घन से बना है जिसका विकर्ण $54\sqrt{3}$ cm है। घनाभ की ऊँचाई ज्ञात करें।

Options :

1. ✗ 51 cm

2. ✓ 72 cm

3. ✗ 63 cm

4. ✗ 54 cm

Question Number : 113 Question Id : 9662316127 Question Type : MCQ Option Shuffling : Yes Display Question Number : Yes
Single Line Question Option : No Option Orientation : Vertical

Correct Marks : 1 Wrong Marks : 0.25

A cylinder of radius 120 cm is made from a sphere of radius 60 cm. Find the height of the cylinder.

Options :

- ✘ 5 cm
- ✘ 10 cm
- ✘ 15 cm
- ✔ 20 cm

Question Number : 113 Question Id : 9662316127 Question Type : MCQ Option Shuffling : Yes Display Question Number : Yes
Single Line Question Option : No Option Orientation : Vertical

Correct Marks : 1 Wrong Marks : 0.25

120 cm की त्रिज्या का एक सिलेंडर 60 cm त्रिज्या के एक गोले से बनाया गया है। सिलेंडर की ऊंचाई ज्ञात करें।

Options :

- ✘ 5 cm
- ✘ 10 cm
- ✘ 15 cm
- ✔ 20 cm

Question Number : 114 Question Id : 9662316128 Question Type : MCQ Option Shuffling : Yes Display Question Number : Yes
Single Line Question Option : No Option Orientation : Vertical

Correct Marks : 1 Wrong Marks : 0.25

Find the total surface area of the cylinder if the height is 70 cm and the ratio between the volume and the curved surface area of the cylinder is 21:2.

Options :

- ✔ 12012 sq cm
- ✘ 6006 sq cm
- ✘ 15015 sq cm
- ✘ 24024 sq cm

Question Number : 114 Question Id : 9662316128 Question Type : MCQ Option Shuffling : Yes Display Question Number : Yes
Single Line Question Option : No Option Orientation : Vertical

Correct Marks : 1 Wrong Marks : 0.25

सिलेंडर का कुल सतह क्षेत्र ज्ञात करें यदि ऊंचाई 70 cm है और एक सिलेंडर का आयतन और घुमावदार सतह क्षेत्र के बीच का अनुपात 21:2 है।

Options :

- ✔ 12012 sq cm
- ✘ 6006 sq cm
- ✘ 15015 sq cm
- ✘ 24024 sq cm

Question Number : 115 Question Id : 9662316129 Question Type : MCQ Option Shuffling : Yes Display Question Number : Yes
Single Line Question Option : No Option Orientation : Vertical

Correct Marks : 1 Wrong Marks : 0.25

The table shows the distribution of the marks obtained by various students in a class. Find the ratio of the number of students getting 20 percent in Arithmetic and >80 percent in Grammar.

Subject	Marks out of 50				
	40 and above	30 and above	20 and above	10 and above	0 and above
Arithmetic	60	180	480	540	600
Grammar	25	120	420	480	600
Average (Aggregate)	42.5	150	450	510	600

Options :

1. ✘ 1:3
2. ✘ 5:12
3. ✔ 12:5
4. ✘ 3:1

Question Number : 115 Question Id : 9662316129 Question Type : MCQ Option Shuffling : Yes Display Question Number : Yes Single Line Question Option : No Option Orientation : Vertical

Correct Marks : 1 Wrong Marks : 0.25

तालिका एक कक्षा में विभिन्न छात्रों द्वारा प्राप्त अंकों के वितरण को दर्शाती है। छात्रों की संख्या का अनुपात ज्ञात करें अंकगणित में 20 प्रतिशत और व्याकरण में >80 प्रतिशत प्राप्त करते हैं।

विषय	50 में से अंक				
	40 और ऊपर	30 और ऊपर	20 और ऊपर	10 और ऊपर	0 और ऊपर
अंकगणित	60	180	480	540	600
व्याकरण	25	120	420	480	600
औसत (पूर्णयोग)	42.5	150	450	510	600

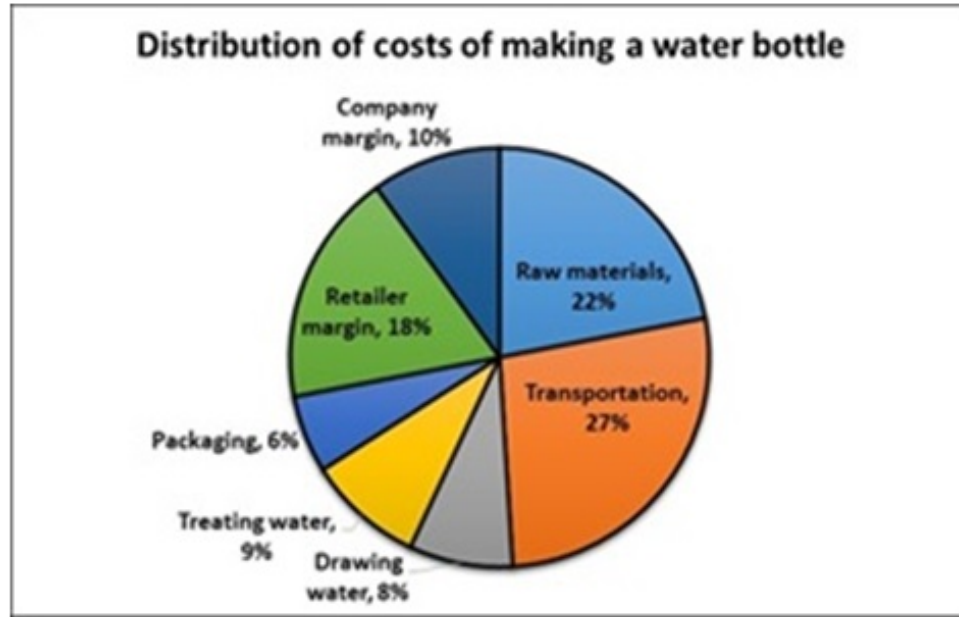
Options :

1. ✘ 1:3
2. ✘ 5:12
3. ✔ 12:5
4. ✘ 3:1

Question Number : 116 Question Id : 9662316130 Question Type : MCQ Option Shuffling : Yes Display Question Number : Yes Single Line Question Option : No Option Orientation : Vertical

Correct Marks : 1 Wrong Marks : 0.25

The pie chart shows the distribution of costs of making a water bottle. The company pays Rs 50000 for drawing water for 25000 bottles. What is selling price of 1 water bottle if the company earns 40 percent on the cost?



Options :

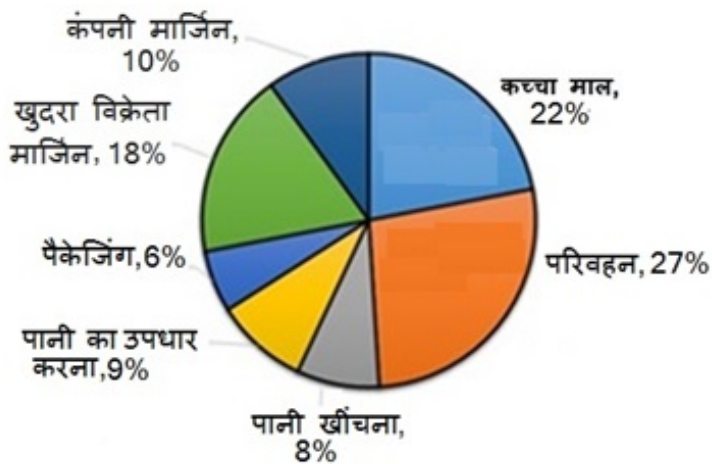
1. ✘ Rs 25
2. ✘ Rs 30
3. ✔ Rs 35
4. ✘ Rs 50

Question Number : 116 Question Id : 9662316130 Question Type : MCQ Option Shuffling : Yes Display Question Number : Yes Single Line Question Option : No Option Orientation : Vertical

Correct Marks : 1 Wrong Marks : 0.25

पाई चार्ट पानी की बोतल बनाने की लागत के वितरण को दर्शाता है। कंपनी 25000 बोतलों में पानी भरने के लिए 50000 रुपए का भुगतान करती है। यदि कंपनी लागत पर 40 प्रतिशत कमाती है तो 1 पानी की बोतल की कीमत क्या है?

पानी की बोतल बनाने की लागत का वितरण



Options :

1. ✘ 25 रुपए
2. ✘ 30 रुपए
3. ✔ 35 रुपए
4. ✘ 50 रुपए

Question Number : 117 Question Id : 9662316131 Question Type : MCQ Option Shuffling : Yes Display Question Number : Yes Single Line Question Option : No Option Orientation : Vertical

Correct Marks : 1 Wrong Marks : 0.25

The following chart shows the market share of exporting countries. If a country X constitutes 40 percent of the share of other countries and the quantity of exports by Country B is 9 million, find the quantity exported by Country X.

Market share of Exporting Countries



Options :

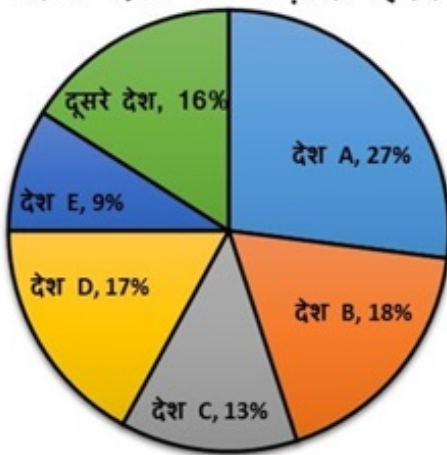
- ✘ 1.6 million
- ✘ 2 million
- ✘ 2.4 million
- ✔ 3.2 million

Question Number : 117 Question Id : 9662316131 Question Type : MCQ Option Shuffling : Yes Display Question Number : Yes Single Line Question Option : No Option Orientation : Vertical

Correct Marks : 1 Wrong Marks : 0.25

निम्नलिखित चार्ट निर्यातक देशों के बाजार हिस्सेदारी को दर्शाता है। यदि देश X अन्य देशों के हिस्से का 40 प्रतिशत हिस्सा बनाता है और देश B द्वारा निर्यात की मात्रा 9 मिलियन है, तो देश X द्वारा निर्यात की जाने वाली मात्रा ज्ञात करें।

निर्यातक देशों का बाज़ारी हिस्सा



Options :

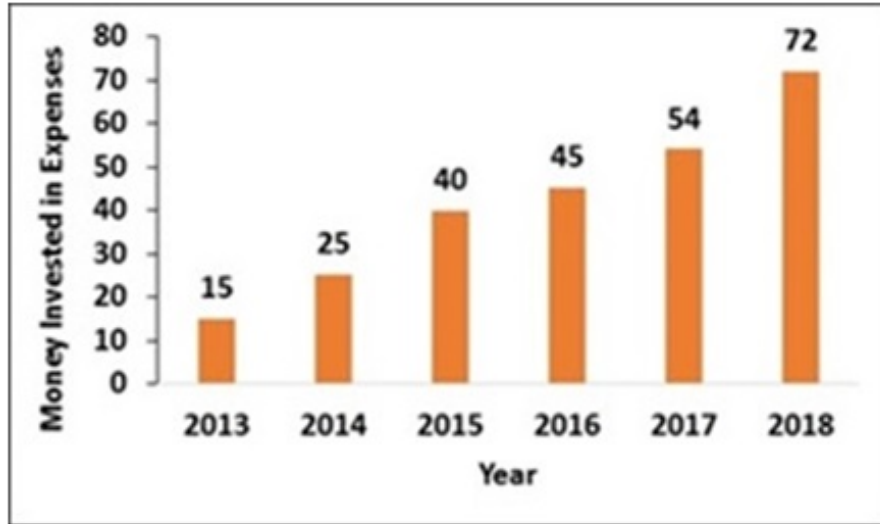
- ✘ 1.6 मिलियन
- ✘ 2 मिलियन
- ✘ 2.4 मिलियन

4. ✓ 3.2 मिलियन

Question Number : 118 Question Id : 9662316132 Question Type : MCQ Option Shuffling : Yes Display Question Number : Yes Single Line Question Option : No Option Orientation : Vertical

Correct Marks : 1 Wrong Marks : 0.25

The bar chart shows the money annually invested in expenses (in Rs lakhs) from 2013-2018. The average revenue generated in 2016-2018 is Rs 60 lakhs. The profit margin for 2019 is expected to increase by 10 percent more than the average margin of the last 3 years. Find the projected profit margin for 2019.



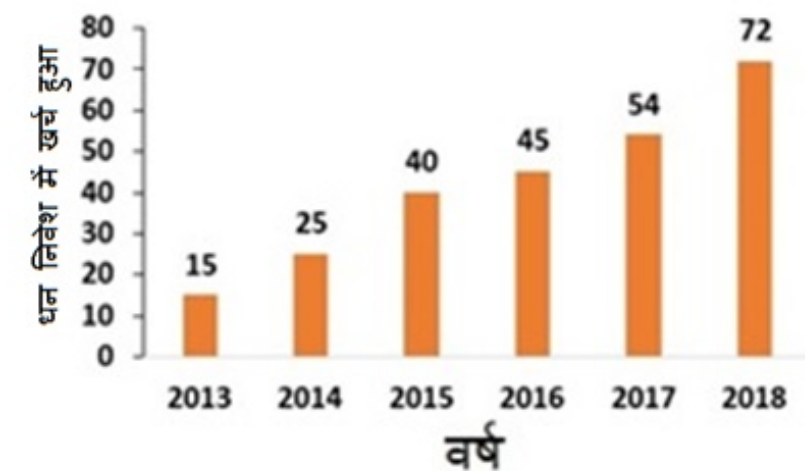
Options :

- ✓ 5.5 percent
- ✗ 15 percent
- ✗ 5 percent
- ✗ 6.67 percent

Question Number : 118 Question Id : 9662316132 Question Type : MCQ Option Shuffling : Yes Display Question Number : Yes Single Line Question Option : No Option Orientation : Vertical

Correct Marks : 1 Wrong Marks : 0.25

बार चार्ट 2013-2018 से खर्चों (लाख रुपए में) निवेश किए गए धन को दर्शाता है। 2016-2018 में उत्पन्न औसत राजस्व 60 लाख रुपए है। 2019 के लिए लाभ मार्जिन पिछले 3 वर्षों के औसत मार्जिन से 10 प्रतिशत अधिक बढ़ने की उम्मीद है। 2019 के लिए अनुमानित लाभ मार्जिन ज्ञात करें।



Options :

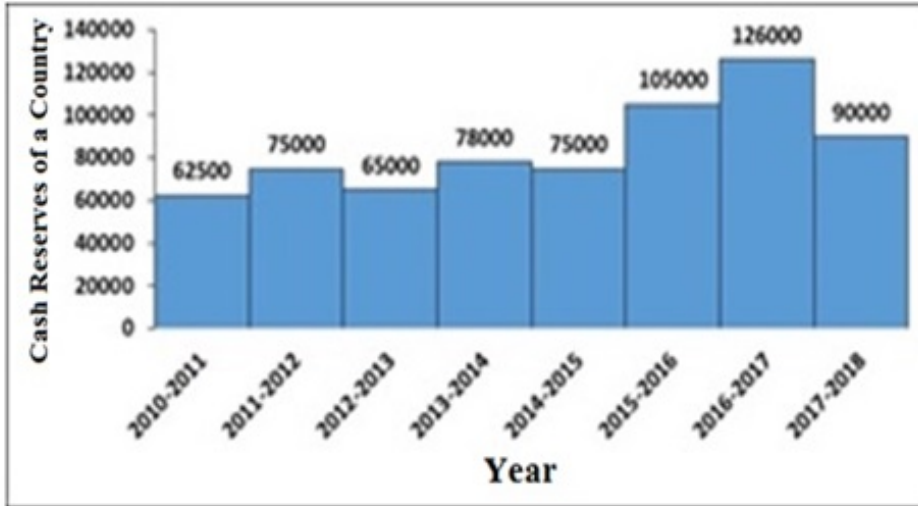
- ✓ 5.5 प्रतिशत
- ✗ 15 प्रतिशत
- ✗ 5 प्रतिशत

4. ✘ 6.67 प्रतिशत

Question Number : 119 Question Id : 9662316133 Question Type : MCQ Option Shuffling : Yes Display Question Number : Yes Single Line Question Option : No Option Orientation : Vertical

Correct Marks : 1 Wrong Marks : 0.25

The histogram shows the cash reserves of a country (in \$ US million) from 2010-2011 to 2017-2018. For all the years where the reserves have increased over the past year, what is the average rate of increase?



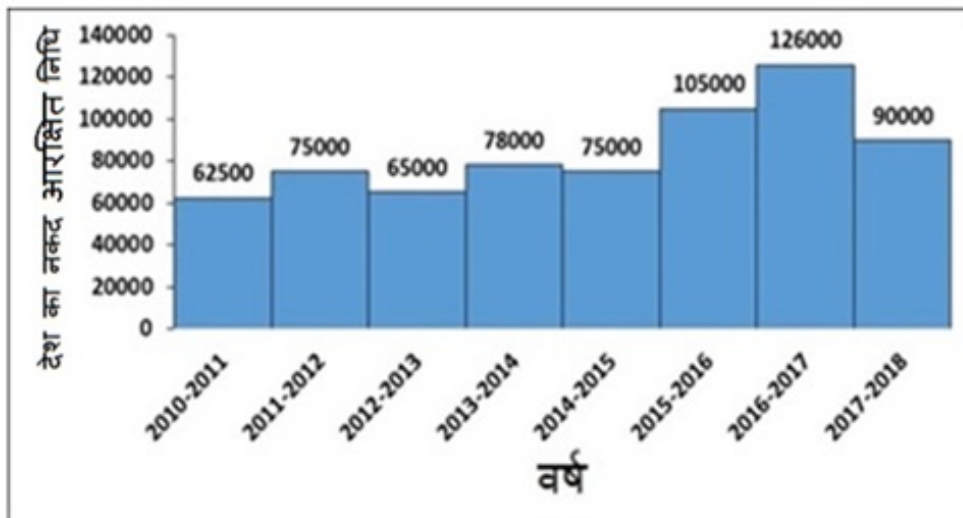
Options :

1. ✘ 10 percent
2. ✘ 15 percent
3. ✔ 25 percent
4. ✘ 33.33 percent

Question Number : 119 Question Id : 9662316133 Question Type : MCQ Option Shuffling : Yes Display Question Number : Yes Single Line Question Option : No Option Orientation : Vertical

Correct Marks : 1 Wrong Marks : 0.25

आयतचित्र 2010-2011 से 2017-2018 तक एक देश (\$ US मिलियन में) के नकदी भंडार को दर्शाता है। सभी वर्षों के लिए जहां पिछले एक साल में रिज़र्व बढ़ गया है, वृद्धि की औसत दर क्या है?



Options :

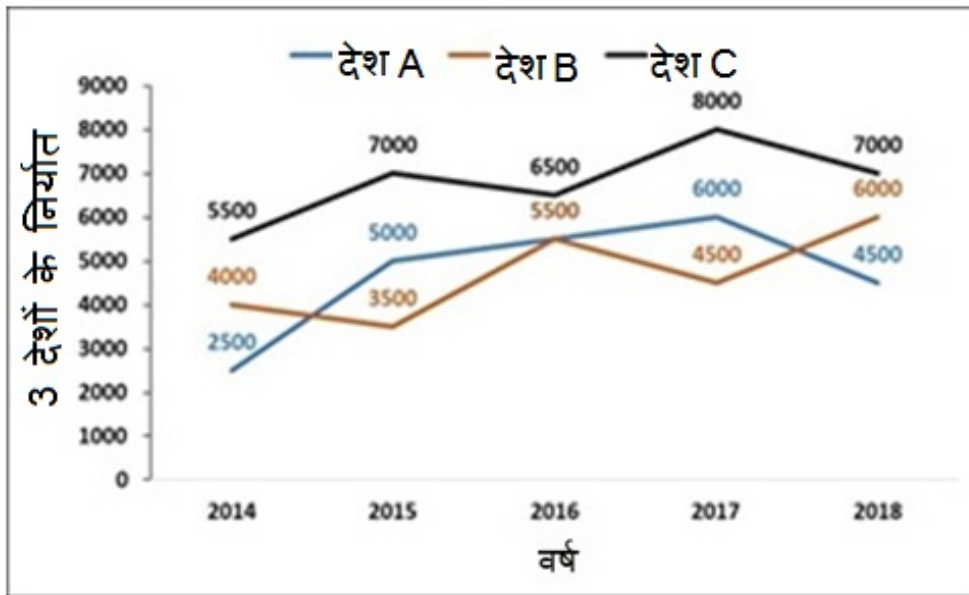
1. ✘ 10 प्रतिशत
2. ✘ 15 प्रतिशत
3. ✔ 25 प्रतिशत

4. ✖ 33.33 प्रतिशत

Question Number : 120 Question Id : 9662316134 Question Type : MCQ Option Shuffling : Yes Display Question Number : Yes Single Line Question Option : No Option Orientation : Vertical

Correct Marks : 1 Wrong Marks : 0.25

लाइन चार्ट वर्ष 2014-2018 के लिए (मिलियन डॉलर में) 3 देशों के निर्यात को दर्शाता है। निम्नलिखित में से किन वर्षों की जोड़ी के लिए, 3 देशों का कुल निर्यात समान है?



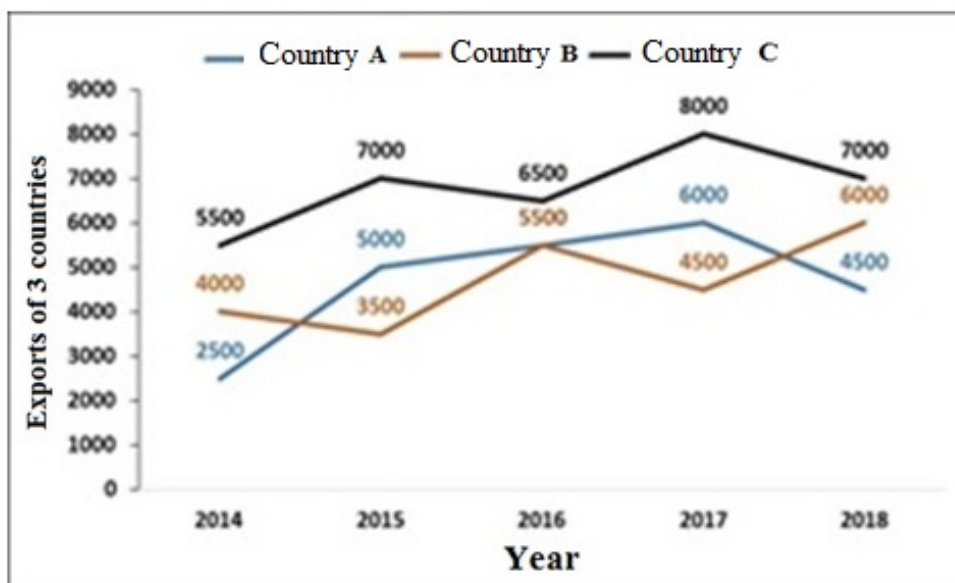
Options :

1. ✖ 2014, 2016
2. ✔ 2016, 2018
3. ✖ 2015, 2017
4. ✖ 2014, 2018

Question Number : 120 Question Id : 9662316134 Question Type : MCQ Option Shuffling : Yes Display Question Number : Yes Single Line Question Option : No Option Orientation : Vertical

Correct Marks : 1 Wrong Marks : 0.25

The line chart shows the exports (in million dollars) of 3 countries for years 2014-2018. For which of the following pairs of years, the total exports of 3 countries is the same?



Options :

1. ✖ 2014, 2016

2. ✓ 2016, 2018
3. ✗ 2015, 2017
4. ✗ 2014, 2018

General English 1

Group Number :	7
Group Id :	966231100
Group Maximum Duration :	0
Group Minimum Duration :	0
Revisit allowed for view? :	No
Revisit allowed for edit? :	No
Break time:	0
Group Marks:	20
Revisit allowed for group Instructions? :	Yes
Maximum Instruction Time:	0
Minimum Instruction Time:	0

General English 1

Section Id :	966231215
Section Number :	1
Section type :	Online
Mandatory or Optional:	Mandatory
Number of Questions:	20
Number of Questions to be attempted:	20
Section Marks:	20
Display Number Panel:	Yes
Group All Questions:	No

Sub-Section Number:	1
Sub-Section Id:	966231229
Question Shuffling Allowed :	Yes

Question Number : 121 Question Id : 9662316135 Question Type : MCQ Option Shuffling : Yes Display Question Number : Yes
Single Line Question Option : No Option Orientation : Vertical

Correct Marks : 1 Wrong Marks : 0.25

In the following statement, one part of the sentence may have an error. Find out which part of the sentence has an error and click the button corresponding to it. If the sentence is free from error, select the "No error" option.

(A) Rahul released the / (B) brake and the car / (C) slowly moved foreword. / (D) No error

Options :

1. ✗ A
2. ✗ B
3. ✓ C
4. ✗ D

Question Number : 121 Question Id : 9662316135 Question Type : MCQ Option Shuffling : Yes Display Question Number : Yes
Single Line Question Option : No Option Orientation : Vertical

Correct Marks : 1 Wrong Marks : 0.25

In the following statement, one part of the sentence may have an error. Find out which part of the sentence has an error and click the button corresponding to it. If the sentence is free from error, select the "No error" option.

(A) Rahul released the / (B) brake and the car / (C) slowly moved foreword. / (D) No error

Options :

1. ✘ A
2. ✘ B
3. ✔ C
4. ✘ D

Question Number : 122 Question Id : 9662316136 Question Type : MCQ Option Shuffling : Yes Display Question Number : Yes Single Line Question Option : No Option Orientation : Vertical

Correct Marks : 1 Wrong Marks : 0.25

In the following statement, one part of the sentence may have an error. Find out which part of the sentence has an error and click the button corresponding to it. If the sentence is free from error, select the "No error" option.

(A) At the age of twenty / (B) he entered the university and / (C) studied English. / (D) No error

Options :

1. ✘ A
2. ✘ B
3. ✘ C
4. ✔ D

Question Number : 122 Question Id : 9662316136 Question Type : MCQ Option Shuffling : Yes Display Question Number : Yes Single Line Question Option : No Option Orientation : Vertical

Correct Marks : 1 Wrong Marks : 0.25

In the following statement, one part of the sentence may have an error. Find out which part of the sentence has an error and click the button corresponding to it. If the sentence is free from error, select the "No error" option.

(A) At the age of twenty / (B) he entered the university and / (C) studied English. / (D) No error

Options :

1. ✘ A
2. ✘ B
3. ✘ C
4. ✔ D

Question Number : 123 Question Id : 9662316137 Question Type : MCQ Option Shuffling : Yes Display Question Number : Yes Single Line Question Option : No Option Orientation : Vertical

Correct Marks : 1 Wrong Marks : 0.25

In the following statement, one part of the sentence may have an error. Find out which part of the sentence has an error and click the button corresponding to it. If the sentence is free from error, select the "No error" option.

(A) The gift should / (B) arrived at you / (C) in three days. / (D) No error

Options :

1. ✘ A
2. ✔ B
3. ✘ C

4. ✘ D

Question Number : 123 Question Id : 9662316137 Question Type : MCQ Option Shuffling : Yes Display Question Number : Yes
Single Line Question Option : No Option Orientation : Vertical

Correct Marks : 1 Wrong Marks : 0.25

In the following statement, one part of the sentence may have an error. Find out which part of the sentence has an error and click the button corresponding to it. If the sentence is free from error, select the "No error" option.

(A) The gift should / (B) arrived at you / (C) in three days. / (D) No error

Options :

1. ✘ A

2. ✔ B

3. ✘ C

4. ✘ D

Question Number : 124 Question Id : 9662316138 Question Type : MCQ Option Shuffling : Yes Display Question Number : Yes
Single Line Question Option : No Option Orientation : Vertical

Correct Marks : 1 Wrong Marks : 0.25

In the following statement, one part of the sentence may have an error. Find out which part of the sentence has an error and click the button corresponding to it. If the sentence is free from error, select the "No error" option.

(A) Did you knew / (B) how to / (C) speak French? / (D) No error

Options :

1. ✔ A

2. ✘ B

3. ✘ C

4. ✘ D

Question Number : 124 Question Id : 9662316138 Question Type : MCQ Option Shuffling : Yes Display Question Number : Yes
Single Line Question Option : No Option Orientation : Vertical

Correct Marks : 1 Wrong Marks : 0.25

In the following statement, one part of the sentence may have an error. Find out which part of the sentence has an error and click the button corresponding to it. If the sentence is free from error, select the "No error" option.

(A) Did you knew / (B) how to / (C) speak French? / (D) No error

Options :

1. ✔ A

2. ✘ B

3. ✘ C

4. ✘ D

Question Number : 125 Question Id : 9662316139 Question Type : MCQ Option Shuffling : Yes Display Question Number : Yes
Single Line Question Option : No Option Orientation : Vertical

Correct Marks : 1 Wrong Marks : 0.25

In the following statement, one part of the sentence may have an error. Find out which part of the sentence has an error and click the button corresponding to it. If the sentence is free from error, select the "No error" option.

(A) Sachin was asked / (B) to repay the lone / (C) by the end of the week. / (D) No error

Options :

1. ✘ A
2. ✔ B
3. ✘ C
4. ✘ D

Question Number : 125 Question Id : 9662316139 Question Type : MCQ Option Shuffling : Yes Display Question Number : Yes
Single Line Question Option : No Option Orientation : Vertical

Correct Marks : 1 Wrong Marks : 0.25

In the following statement, one part of the sentence may have an error. Find out which part of the sentence has an error and click the button corresponding to it. If the sentence is free from error, select the "No error" option.

(A) Sachin was asked / (B) to repay the lone / (C) by the end of the week. / (D) No error

Options :

1. ✘ A
2. ✔ B
3. ✘ C
4. ✘ D

Question Number : 126 Question Id : 9662316140 Question Type : MCQ Option Shuffling : Yes Display Question Number : Yes
Single Line Question Option : No Option Orientation : Vertical

Correct Marks : 1 Wrong Marks : 0.25

Select the word segment that substitutes (replaces) the bracketed word segment correctly and completes the sentence meaningfully.

If I (am you), I would have told him everything.

Options :

1. ✘ will you
2. ✘ are you
3. ✔ were you
4. ✘ No correction

Question Number : 126 Question Id : 9662316140 Question Type : MCQ Option Shuffling : Yes Display Question Number : Yes
Single Line Question Option : No Option Orientation : Vertical

Correct Marks : 1 Wrong Marks : 0.25

Select the word segment that substitutes (replaces) the bracketed word segment correctly and completes the sentence meaningfully.

If I (am you), I would have told him everything.

Options :

1. ✘ will you
2. ✘ are you
3. ✔ were you
4. ✘ No correction

Question Number : 127 Question Id : 9662316141 Question Type : MCQ Option Shuffling : Yes Display Question Number : Yes
Single Line Question Option : No Option Orientation : Vertical

Correct Marks : 1 Wrong Marks : 0.25

Select the word segment that substitutes (replaces) the bracketed word segment correctly and completes the sentence meaningfully.

Shyama is (addict of) smoking.

Options :

1. ✘ addict in
2. ✔ addicted to
3. ✘ addicted of
4. ✘ No correction

Question Number : 127 Question Id : 9662316141 Question Type : MCQ Option Shuffling : Yes Display Question Number : Yes Single Line Question Option : No Option Orientation : Vertical

Correct Marks : 1 Wrong Marks : 0.25

Select the word segment that substitutes (replaces) the bracketed word segment correctly and completes the sentence meaningfully.

Shyama is (addict of) smoking.

Options :

1. ✘ addict in
2. ✔ addicted to
3. ✘ addicted of
4. ✘ No correction

Question Number : 128 Question Id : 9662316142 Question Type : MCQ Option Shuffling : Yes Display Question Number : Yes Single Line Question Option : No Option Orientation : Vertical

Correct Marks : 1 Wrong Marks : 0.25

Select the word segment that substitutes (replaces) the bracketed word segment correctly and completes the sentence meaningfully.

The teacher asked if I (knowing) the answer.

Options :

1. ✘ knewing
2. ✘ know
3. ✔ knew
4. ✘ No correction

Question Number : 128 Question Id : 9662316142 Question Type : MCQ Option Shuffling : Yes Display Question Number : Yes Single Line Question Option : No Option Orientation : Vertical

Correct Marks : 1 Wrong Marks : 0.25

Select the word segment that substitutes (replaces) the bracketed word segment correctly and completes the sentence meaningfully.

The teacher asked if I (knowing) the answer.

Options :

1. ✘ knewing
2. ✘ know
3. ✔ knew
4. ✘ No correction

Question Number : 129 Question Id : 9662316143 Question Type : MCQ Option Shuffling : Yes Display Question Number : Yes Single Line Question Option : No Option Orientation : Vertical

Correct Marks : 1 Wrong Marks : 0.25

Select the word segment that substitutes (replaces) the bracketed word segment correctly and completes the sentence meaningfully.

The robbers (ran away) in the jeep.

Options :

1. ✘ running away
2. ✘ run down
3. ✘ run away
4. ✔ No correction

Question Number : 129 Question Id : 9662316143 Question Type : MCQ Option Shuffling : Yes Display Question Number : Yes Single Line Question Option : No Option Orientation : Vertical

Correct Marks : 1 Wrong Marks : 0.25

Select the word segment that substitutes (replaces) the bracketed word segment correctly and completes the sentence meaningfully.

The robbers (ran away) in the jeep.

Options :

1. ✘ running away
2. ✘ run down
3. ✘ run away
4. ✔ No correction

Question Number : 130 Question Id : 9662316144 Question Type : MCQ Option Shuffling : Yes Display Question Number : Yes Single Line Question Option : No Option Orientation : Vertical

Correct Marks : 1 Wrong Marks : 0.25

Select the word segment that substitutes (replaces) the bracketed word segment correctly and completes the sentence meaningfully.

Fatima (visits) the park every Friday.

Options :

1. ✘ visited
2. ✘ visiting
3. ✘ will visited
4. ✔ No correction

Question Number : 130 Question Id : 9662316144 Question Type : MCQ Option Shuffling : Yes Display Question Number : Yes Single Line Question Option : No Option Orientation : Vertical

Correct Marks : 1 Wrong Marks : 0.25

Select the word segment that substitutes (replaces) the bracketed word segment correctly and completes the sentence meaningfully.

Fatima (visits) the park every Friday.

Options :

1. ✘ visited
2. ✘ visiting
3. ✘ will visited
4. ✔ No correction

Question Number : 131 Question Id : 9662316145 Question Type : MCQ Option Shuffling : Yes Display Question Number : Yes
Single Line Question Option : No Option Orientation : Vertical

Correct Marks : 1 Wrong Marks : 0.25

Select the word that fills in the blank correctly and completes the sentence meaningfully.

The quiet tone of _____ that ran through the novel never degenerated into the maudlin or the overly sentimental.

Options :

1. ✓ pathos
2. ✗ paucity
3. ✗ pariah
4. ✗ pellucid

Question Number : 131 Question Id : 9662316145 Question Type : MCQ Option Shuffling : Yes Display Question Number : Yes
Single Line Question Option : No Option Orientation : Vertical

Correct Marks : 1 Wrong Marks : 0.25

Select the word that fills in the blank correctly and completes the sentence meaningfully.

The quiet tone of _____ that ran through the novel never degenerated into the maudlin or the overly sentimental.

Options :

1. ✓ pathos
2. ✗ paucity
3. ✗ pariah
4. ✗ pellucid

Question Number : 132 Question Id : 9662316146 Question Type : MCQ Option Shuffling : Yes Display Question Number : Yes
Single Line Question Option : No Option Orientation : Vertical

Correct Marks : 1 Wrong Marks : 0.25

Select the word that fills in the blank correctly and completes the sentence meaningfully.

Mansi burst ____ tears after seeing her brother.

Options :

1. ✗ at
2. ✓ into
3. ✗ on
4. ✗ in

Question Number : 132 Question Id : 9662316146 Question Type : MCQ Option Shuffling : Yes Display Question Number : Yes
Single Line Question Option : No Option Orientation : Vertical

Correct Marks : 1 Wrong Marks : 0.25

Select the word that fills in the blank correctly and completes the sentence meaningfully.

Mansi burst ____ tears after seeing her brother.

Options :

1. ✗ at
2. ✓ into
3. ✗ on
4. ✗ in

Question Number : 133 Question Id : 9662316147 Question Type : MCQ Option Shuffling : Yes Display Question Number : Yes
Single Line Question Option : No Option Orientation : Vertical

Correct Marks : 1 Wrong Marks : 0.25

Select the word that fills in the blank correctly and completes the sentence meaningfully.

Simran _____ with us for the scholarship.

Options :

1. ✘ committed
2. ✔ competed
3. ✘ compared
4. ✘ commenced

Question Number : 133 Question Id : 9662316147 Question Type : MCQ Option Shuffling : Yes Display Question Number : Yes
Single Line Question Option : No Option Orientation : Vertical

Correct Marks : 1 Wrong Marks : 0.25

Select the word that fills in the blank correctly and completes the sentence meaningfully.

Simran _____ with us for the scholarship.

Options :

1. ✘ committed
2. ✔ competed
3. ✘ compared
4. ✘ commenced

Question Number : 134 Question Id : 9662316148 Question Type : MCQ Option Shuffling : Yes Display Question Number : Yes
Single Line Question Option : No Option Orientation : Vertical

Correct Marks : 1 Wrong Marks : 0.25

Select the word that fills in the blank correctly and completes the sentence meaningfully.

The medicine will cure her ____typhoid.

Options :

1. ✘ on
2. ✘ in
3. ✘ at
4. ✔ of

Question Number : 134 Question Id : 9662316148 Question Type : MCQ Option Shuffling : Yes Display Question Number : Yes
Single Line Question Option : No Option Orientation : Vertical

Correct Marks : 1 Wrong Marks : 0.25

Select the word that fills in the blank correctly and completes the sentence meaningfully.

The medicine will cure her ____typhoid.

Options :

1. ✘ on
2. ✘ in
3. ✘ at
4. ✔ of

Question Number : 135 Question Id : 9662316149 Question Type : MCQ Option Shuffling : Yes Display Question Number : Yes
Single Line Question Option : No Option Orientation : Vertical

Correct Marks : 1 Wrong Marks : 0.25

Select the word that fills in the blank correctly and completes the sentence meaningfully.

The Crimean war had just _____ out.

Options :

1. ✘ was broke
2. ✘ break
3. ✔ broken
4. ✘ breaking

Question Number : 135 Question Id : 9662316149 Question Type : MCQ Option Shuffling : Yes Display Question Number : Yes
Single Line Question Option : No Option Orientation : Vertical

Correct Marks : 1 Wrong Marks : 0.25

Select the word that fills in the blank correctly and completes the sentence meaningfully.

The Crimean war had just _____ out.

Options :

1. ✘ was broke
2. ✘ break
3. ✔ broken
4. ✘ breaking

Question Number : 136 Question Id : 9662316150 Question Type : MCQ Option Shuffling : Yes Display Question Number : Yes
Single Line Question Option : No Option Orientation : Vertical

Correct Marks : 1 Wrong Marks : 0.25

Select the word that fills in the blank correctly and completes the sentence meaningfully.

Manisha studied hard so that she _____.

Options :

1. ✔ could succeed
2. ✘ could success
3. ✘ must success
4. ✘ must succeed

Question Number : 136 Question Id : 9662316150 Question Type : MCQ Option Shuffling : Yes Display Question Number : Yes
Single Line Question Option : No Option Orientation : Vertical

Correct Marks : 1 Wrong Marks : 0.25

Select the word that fills in the blank correctly and completes the sentence meaningfully.

Manisha studied hard so that she _____.

Options :

1. ✔ could succeed
2. ✘ could success
3. ✘ must success
4. ✘ must succeed

Question Number : 137 Question Id : 9662316151 Question Type : MCQ Option Shuffling : Yes Display Question Number : Yes
Single Line Question Option : No Option Orientation : Vertical

Correct Marks : 1 Wrong Marks : 0.25

Select the word that fills in the blank correctly and completes the sentence meaningfully.

The book was lying _____ the table.

Options :

1. ✘ in
2. ✘ at
3. ✔ on
4. ✘ to

Question Number : 137 Question Id : 9662316151 Question Type : MCQ Option Shuffling : Yes Display Question Number : Yes
Single Line Question Option : No Option Orientation : Vertical

Correct Marks : 1 Wrong Marks : 0.25

Select the word that fills in the blank correctly and completes the sentence meaningfully.

The book was lying _____ the table.

Options :

1. ✘ in
2. ✘ at
3. ✔ on
4. ✘ to

Question Number : 138 Question Id : 9662316152 Question Type : MCQ Option Shuffling : Yes Display Question Number : Yes
Single Line Question Option : No Option Orientation : Vertical

Correct Marks : 1 Wrong Marks : 0.25

Select the word that fills in the blank correctly and completes the sentence meaningfully.

She offered a _____ of excuses for her shortcomings.

Options :

1. ✘ primeval
2. ✘ portent
3. ✔ plethora
4. ✘ prosaic

Question Number : 138 Question Id : 9662316152 Question Type : MCQ Option Shuffling : Yes Display Question Number : Yes
Single Line Question Option : No Option Orientation : Vertical

Correct Marks : 1 Wrong Marks : 0.25

Select the word that fills in the blank correctly and completes the sentence meaningfully.

She offered a _____ of excuses for her shortcomings.

Options :

1. ✘ primeval
2. ✘ portent
3. ✔ plethora
4. ✘ prosaic

Question Number : 139 Question Id : 9662316153 Question Type : MCQ Option Shuffling : Yes Display Question Number : Yes
Single Line Question Option : No Option Orientation : Vertical

Correct Marks : 1 Wrong Marks : 0.25

The questions below consist of a set of labelled parts of a sentence. Out of four options given, select the most logical order of the parts which form a coherent sentence.

The states of
P : secondary education
Q : Kerala and Tamil Nadu
R : to their citizens
S : provide free

Options :

1. ✘ SPQR
2. ✔ QSPR
3. ✘ PQRS
4. ✘ SQPR

Question Number : 139 Question Id : 9662316153 Question Type : MCQ Option Shuffling : Yes Display Question Number : Yes Single Line Question Option : No Option Orientation : Vertical

Correct Marks : 1 Wrong Marks : 0.25

The questions below consist of a set of labelled parts of a sentence. Out of four options given, select the most logical order of the parts which form a coherent sentence.

The states of
P : secondary education
Q : Kerala and Tamil Nadu
R : to their citizens
S : provide free

Options :

1. ✘ SPQR
2. ✔ QSPR
3. ✘ PQRS
4. ✘ SQPR

Question Number : 140 Question Id : 9662316154 Question Type : MCQ Option Shuffling : Yes Display Question Number : Yes Single Line Question Option : No Option Orientation : Vertical

Correct Marks : 1 Wrong Marks : 0.25

The questions below consist of a set of labelled parts of a sentence. Out of four options given, select the most logical order of the parts which form a coherent sentence.

For decades,
P : to play the deified
Q : have been content
R : goddess-glamdoll
S : Bollywood actresses

Options :

1. ✔ SQPR
2. ✘ PRQS
3. ✘ QSPR
4. ✘ RSQP

Question Number : 140 Question Id : 9662316154 Question Type : MCQ Option Shuffling : Yes Display Question Number : Yes Single Line Question Option : No Option Orientation : Vertical

Correct Marks : 1 Wrong Marks : 0.25

The questions below consist of a set of labelled parts of a sentence. Out of four options given, select the most logical order of the parts which form a coherent sentence.

For decades,
P : to play the deified
Q : have been content
R : goddess-glamdoll
S : Bollywood actresses

Options :

1. ✓ SQPR
2. ✗ PRQS
3. ✗ QSPR
4. ✗ RSQP

General English2

Group Number :	8
Group Id :	966231101
Group Maximum Duration :	0
Group Minimum Duration :	0
Revisit allowed for view? :	No
Revisit allowed for edit? :	No
Break time:	0
Group Marks:	20
Revisit allowed for group Instructions? :	Yes
Maximum Instruction Time:	0
Minimum Instruction Time:	0

General English2

Section Id :	966231216
Section Number :	1
Section type :	Online
Mandatory or Optional:	Mandatory
Number of Questions:	16
Number of Questions to be attempted:	16
Section Marks:	20
Display Number Panel:	Yes
Group All Questions:	No

Sub-Section Number:	1
Sub-Section Id:	966231230
Question Shuffling Allowed :	Yes

Question Number : 141 Question Id : 9662316155 Question Type : MCQ Option Shuffling : Yes Display Question Number : Yes
Single Line Question Option : No Option Orientation : Vertical

Correct Marks : 1 Wrong Marks : 0.25

The sentences of a paragraph have been jumbled up, and labelled P, Q, R and S. Select the option that gives the correct sequence in which these sentences should be rearranged to form a meaningful paragraph.

She was a crusader for the underdog, which made her work for the underpaid women and half-starved children in London.

P : A powerful advocate of 'free thought', she claimed to be a militant atheist.

Q : The first woman to publicly favour birth control, she is hailed as a pioneer by the feminists.

R : In India, her 'final home', she was accepted as an ardent nationalist.

S : Bernard Shaw and Beatrice Webb regarded her as the greatest British woman of her time.

That was Annie Besant.

Options :

1. ✓ PQSR

2. ✗ SQPR

3. ✗ RSPQ

4. ✗ QRPS

Question Number : 141 Question Id : 9662316155 Question Type : MCQ Option Shuffling : Yes Display Question Number : Yes Single Line Question Option : No Option Orientation : Vertical

Correct Marks : 1 Wrong Marks : 0.25

The sentences of a paragraph have been jumbled up, and labelled P, Q, R and S. Select the option that gives the correct sequence in which these sentences should be rearranged to form a meaningful paragraph.

She was a crusader for the underdog, which made her work for the underpaid women and half-starved children in London.

P : A powerful advocate of 'free thought', she claimed to be a militant atheist.

Q : The first woman to publicly favour birth control, she is hailed as a pioneer by the feminists.

R : In India, her 'final home', she was accepted as an ardent nationalist.

S : Bernard Shaw and Beatrice Webb regarded her as the greatest British woman of her time.

That was Annie Besant.

Options :

1. ✓ PQSR

2. ✗ SQPR

3. ✗ RSPQ

4. ✗ QRPS

Question Number : 142 Question Id : 9662316156 Question Type : MCQ Option Shuffling : Yes Display Question Number : Yes Single Line Question Option : No Option Orientation : Vertical

Correct Marks : 1 Wrong Marks : 0.25

Select the word that is closest in meaning (SYNONYM) to the word given below.

MALICE

Options :

1. ✗ Abundant

2. ✗ Kindness

3. ✓ Grudge

4. ✗ Asset

Question Number : 142 Question Id : 9662316156 Question Type : MCQ Option Shuffling : Yes Display Question Number : Yes Single Line Question Option : No Option Orientation : Vertical

Correct Marks : 1 Wrong Marks : 0.25

Select the word that is closest in meaning (SYNONYM) to the word given below.

MALICE

Options :

1. ✘ Abundant
2. ✘ Kindness
3. ✔ Grudge
4. ✘ Asset

Question Number : 143 Question Id : 9662316157 Question Type : MCQ Option Shuffling : Yes Display Question Number : Yes
Single Line Question Option : No Option Orientation : Vertical

Correct Marks : 1 Wrong Marks : 0.25

Select the word that is closest in meaning (SYNONYM) to the word given below.

CAPTIVATE

Options :

1. ✘ Offend
2. ✔ Charm
3. ✘ Lazy
4. ✘ Timid

Question Number : 143 Question Id : 9662316157 Question Type : MCQ Option Shuffling : Yes Display Question Number : Yes
Single Line Question Option : No Option Orientation : Vertical

Correct Marks : 1 Wrong Marks : 0.25

Select the word that is closest in meaning (SYNONYM) to the word given below.

CAPTIVATE

Options :

1. ✘ Offend
2. ✔ Charm
3. ✘ Lazy
4. ✘ Timid

Question Number : 144 Question Id : 9662316158 Question Type : MCQ Option Shuffling : Yes Display Question Number : Yes
Single Line Question Option : No Option Orientation : Vertical

Correct Marks : 1 Wrong Marks : 0.25

Select the word that is opposite in meaning (ANTONYM) to the word given below.

FEEBLE

Options :

1. ✔ Strong
2. ✘ Stumble
3. ✘ Stimulant
4. ✘ Spurious

Question Number : 144 Question Id : 9662316158 Question Type : MCQ Option Shuffling : Yes Display Question Number : Yes
Single Line Question Option : No Option Orientation : Vertical

Correct Marks : 1 Wrong Marks : 0.25

Select the word that is opposite in meaning (ANTONYM) to the word given below.

FEEBLE

Options :

1. ✔ Strong

2. ✘ Stumble
3. ✘ Stimulant
4. ✘ Spurious

Question Number : 145 Question Id : 9662316159 Question Type : MCQ Option Shuffling : Yes Display Question Number : Yes
Single Line Question Option : No Option Orientation : Vertical

Correct Marks : 1 Wrong Marks : 0.25

Select the word that is opposite in meaning (ANTONYM) to the word given below.

CLANDESTINE

Options :

1. ✘ Diffuse
2. ✔ Legal
3. ✘ Repel
4. ✘ Regard

Question Number : 145 Question Id : 9662316159 Question Type : MCQ Option Shuffling : Yes Display Question Number : Yes
Single Line Question Option : No Option Orientation : Vertical

Correct Marks : 1 Wrong Marks : 0.25

Select the word that is opposite in meaning (ANTONYM) to the word given below.

CLANDESTINE

Options :

1. ✘ Diffuse
2. ✔ Legal
3. ✘ Repel
4. ✘ Regard

Question Number : 146 Question Id : 9662316160 Question Type : MCQ Option Shuffling : Yes Display Question Number : Yes
Single Line Question Option : No Option Orientation : Vertical

Correct Marks : 1 Wrong Marks : 0.25

Select the word that is closest in meaning (SYNONYM) to the word given below.

CONCEDE

Options :

1. ✘ Lack
2. ✘ Pure
3. ✔ Permit
4. ✘ Deny

Question Number : 146 Question Id : 9662316160 Question Type : MCQ Option Shuffling : Yes Display Question Number : Yes
Single Line Question Option : No Option Orientation : Vertical

Correct Marks : 1 Wrong Marks : 0.25

Select the word that is closest in meaning (SYNONYM) to the word given below.

CONCEDE

Options :

1. ✘ Lack
2. ✘ Pure
3. ✔ Permit

4. ✘ Deny

Question Number : 147 Question Id : 9662316161 Question Type : MCQ Option Shuffling : Yes Display Question Number : Yes
Single Line Question Option : No Option Orientation : Vertical

Correct Marks : 1 Wrong Marks : 0.25

Four words are given, out of which only one word is spelt correctly. Choose the correctly spelt word.

Options :

1. ✘ Parsimoneous
2. ✘ Parsimonos
3. ✘ Parsimonous
4. ✔ Parsimonious

Question Number : 147 Question Id : 9662316161 Question Type : MCQ Option Shuffling : Yes Display Question Number : Yes
Single Line Question Option : No Option Orientation : Vertical

Correct Marks : 1 Wrong Marks : 0.25

Four words are given, out of which only one word is spelt correctly. Choose the correctly spelt word.

Options :

1. ✘ Parsimoneous
2. ✘ Parsimonos
3. ✘ Parsimonous
4. ✔ Parsimonious

Question Number : 148 Question Id : 9662316162 Question Type : MCQ Option Shuffling : Yes Display Question Number : Yes
Single Line Question Option : No Option Orientation : Vertical

Correct Marks : 1 Wrong Marks : 0.25

Four words are given, out of which only one word is spelt correctly. Choose the correctly spelt word.

Options :

1. ✘ Juridictonal
2. ✔ Jurisdictional
3. ✘ Jurisdictenol
4. ✘ Jurisdictional

Question Number : 148 Question Id : 9662316162 Question Type : MCQ Option Shuffling : Yes Display Question Number : Yes
Single Line Question Option : No Option Orientation : Vertical

Correct Marks : 1 Wrong Marks : 0.25

Four words are given, out of which only one word is spelt correctly. Choose the correctly spelt word.

Options :

1. ✘ Juridictonal
2. ✔ Jurisdictional
3. ✘ Jurisdictenol
4. ✘ Jurisdictional

Question Number : 149 Question Id : 9662316163 Question Type : MCQ Option Shuffling : Yes Display Question Number : Yes
Single Line Question Option : No Option Orientation : Vertical

Correct Marks : 1 Wrong Marks : 0.25

Four words are given, out of which only one word is spelt correctly. Choose the correctly spelt word.

Options :

1. ✘ Emesculate
2. ✘ Emasculete

3. ✓ Emasculate

4. ✗ Emaculete

Question Number : 149 Question Id : 9662316163 Question Type : MCQ Option Shuffling : Yes Display Question Number : Yes
Single Line Question Option : No Option Orientation : Vertical

Correct Marks : 1 Wrong Marks : 0.25

Four words are given, out of which only one word is spelt correctly. Choose the correctly spelt word.

Options :

1. ✗ Emesculate

2. ✗ Emasculete

3. ✓ Emasculate

4. ✗ Emaculete

Question Number : 150 Question Id : 9662316164 Question Type : MCQ Option Shuffling : Yes Display Question Number : Yes
Single Line Question Option : No Option Orientation : Vertical

Correct Marks : 1 Wrong Marks : 0.25

Select the option that best expresses the meaning of the idiom or phrase given below.

To steer clear of

Options :

1. ✗ To face criticism

2. ✓ To avoid something

3. ✗ To be in danger

4. ✗ To punish someone

Question Number : 150 Question Id : 9662316164 Question Type : MCQ Option Shuffling : Yes Display Question Number : Yes
Single Line Question Option : No Option Orientation : Vertical

Correct Marks : 1 Wrong Marks : 0.25

Select the option that best expresses the meaning of the idiom or phrase given below.

To steer clear of

Options :

1. ✗ To face criticism

2. ✓ To avoid something

3. ✗ To be in danger

4. ✗ To punish someone

Question Number : 151 Question Id : 9662316165 Question Type : MCQ Option Shuffling : Yes Display Question Number : Yes
Single Line Question Option : No Option Orientation : Vertical

Correct Marks : 1 Wrong Marks : 0.25

Select the option that best expresses the meaning of the idiom or phrase given below.

Brought to book

Options :

1. ✓ To punish someone

2. ✗ To try hard to achieve something

3. ✗ To be angry with someone

4. ✗ To be patient

Question Number : 151 Question Id : 9662316165 Question Type : MCQ Option Shuffling : Yes Display Question Number : Yes
Single Line Question Option : No Option Orientation : Vertical

Correct Marks : 1 Wrong Marks : 0.25

Select the option that best expresses the meaning of the idiom or phrase given below.

Brought to book

Options :

1. ✓ To punish someone
2. ✗ To be angry with someone
3. ✗ To be angry on someone
4. ✗ To be patient

Question Number : 152 Question Id : 9662316166 Question Type : MCQ Option Shuffling : Yes Display Question Number : Yes
Single Line Question Option : No Option Orientation : Vertical

Correct Marks : 1 Wrong Marks : 0.25

Select the option that best expresses the meaning of the idiom or phrase given below.

To see red

Options :

1. ✗ To guess right
2. ✗ To bag the first position
3. ✗ To find fault with
4. ✓ To be angry

Question Number : 152 Question Id : 9662316166 Question Type : MCQ Option Shuffling : Yes Display Question Number : Yes
Single Line Question Option : No Option Orientation : Vertical

Correct Marks : 1 Wrong Marks : 0.25

Select the option that best expresses the meaning of the idiom or phrase given below.

To see red

Options :

1. ✗ To guess right
2. ✗ To bag the first position
3. ✗ To find fault with
4. ✓ To be angry

Question Number : 153 Question Id : 9662316167 Question Type : MCQ Option Shuffling : Yes Display Question Number : Yes
Single Line Question Option : No Option Orientation : Vertical

Correct Marks : 1 Wrong Marks : 0.25

Select the most appropriate 'one word ' for the expressions given below.

An exclusive circle of people with a common purpose

Options :

1. ✗ Clique
2. ✓ Brood
3. ✗ Bale
4. ✗

Question Number : 153 Question Id : 9662316167 Question Type : MCQ Option Shuffling : Yes Display Question Number : Yes
Single Line Question Option : No Option Orientation : Vertical

Correct Marks : 1 Wrong Marks : 0.25

Select the most appropriate 'one word ' for the expressions given below.

An exclusive circle of people with a common purpose

Options :

1. ✘ **Claque**
2. ✔ **Clique**
3. ✘ **Brood**
4. ✘ **Bale**

Question Number : 154 Question Id : 9662316168 Question Type : MCQ Option Shuffling : Yes Display Question Number : Yes
Single Line Question Option : No Option Orientation : Vertical

Correct Marks : 1 Wrong Marks : 0.25

Select the most appropriate 'one word ' for the expressions given below.

The art of effective or persuasive speaking or writing

Options :

1. ✘ **Compere**
2. ✘ **Odontology**
3. ✔ **Rhetoric**
4. ✘ **Dactylogy**

Question Number : 154 Question Id : 9662316168 Question Type : MCQ Option Shuffling : Yes Display Question Number : Yes
Single Line Question Option : No Option Orientation : Vertical

Correct Marks : 1 Wrong Marks : 0.25

Select the most appropriate 'one word ' for the expressions given below.

The art of effective or persuasive speaking or writing

Options :

1. ✘ **Compere**
2. ✘ **Odontology**
3. ✔ **Rhetoric**
4. ✘ **Dactylogy**

Question Number : 155 Question Id : 9662316169 Question Type : MCQ Option Shuffling : Yes Display Question Number : Yes
Single Line Question Option : No Option Orientation : Vertical

Correct Marks : 1 Wrong Marks : 0.25

Select the most appropriate 'one word ' for the expressions given below.

A form of government in which power is held by the nobility

Options :

1. ✔ **Aristocracy**
2. ✘ **Autocracy**
3. ✘ **Gerontocracy**
4. ✘ **Kakistocracy**

Question Number : 155 Question Id : 9662316169 Question Type : MCQ Option Shuffling : Yes Display Question Number : Yes
Single Line Question Option : No Option Orientation : Vertical

Correct Marks : 1 Wrong Marks : 0.25

Select the most appropriate 'one word ' for the expressions given below.

A form of government in which power is held by the nobility

Options :

1. ✓ Aristocracy
2. ✗ Autocracy
3. ✗ Gerontocracy
4. ✗ Kakistocracy

Sub-Section Number: 2
Sub-Section Id: 966231231
Question Shuffling Allowed : Yes

Question Id : 9662316170 Question Type : COMPREHENSION Sub Question Shuffling Allowed : Yes Group Comprehension Questions : No

Question Numbers : (156 to 160)

Question Label : Comprehension

Read this passage carefully and answer the given questions.

One day, a high summer flood washed a mongoose out of the burrow where he lived with his father and mother, and carried him, kicking and clucking, down a roadside ditch. He found a little wisp of grass floating there, and clung to it till he lost his senses. When he revived, he was lying in the hot sun on the middle of a garden path, very draggled indeed, and a small boy was saying, "Here's a dead mongoose. Let's have a funeral." "No," said his mother, "let's take him in and dry him. Perhaps he isn't really dead." They took him into the house, and a big man picked him up between his finger and thumb and said he was not dead but half choked. So they wrapped him in cotton wool, and warmed him over a little fire, and he opened his eyes and sneezed. "Now," said the big man (he was an Englishman who had just moved into the bungalow), "don't frighten him, and we'll see what he'll do." It is the hardest thing in the world to frighten a mongoose, because he is eaten up from nose to tail with curiosity. The motto of all the mongoose family is "Run and find out," and Rikki-tikki was a true mongoose. He looked at the cotton wool, decided that it was not good to eat, ran all round the table, sat up and put his fur in order, scratched himself, and jumped on the small boy's shoulder. "Don't be frightened, Teddy," said his father.

Sub questions

Question Number : 156 Question Id : 9662316171 Question Type : MCQ Option Shuffling : Yes Display Question Number : Yes Single Line Question Option : No Option Orientation : Vertical

Correct Marks : 1 Wrong Marks : 0.25

The mongoose was living with his _____.

Options :

1. ✓ mother
2. ✗ brother
3. ✗ enemy
4. ✗ friend

Question Number : 157 Question Id : 9662316172 Question Type : MCQ Option Shuffling : Yes Display Question Number : Yes Single Line Question Option : No Option Orientation : Vertical

Correct Marks : 1 Wrong Marks : 0.25

The mongoose lost his senses _____.

Options :

1. ✗ after the summer flood
2. ✗ after clinging on to the floating grass
3. ✗ after lying in the hot sun
4. ✓ after clinging the floating grass

Question Number : 158 Question Id : 9662316173 Question Type : MCQ Option Shuffling : Yes Display Question Number : Yes
Single Line Question Option : No Option Orientation : Vertical

Correct Marks : 1 Wrong Marks : 0.25

What did the boy think when he first saw the mongoose?

Options :

1. ✓ The mongoose was dead
2. ✗ The mongoose was half choked
3. ✗ The mongoose was lying unconscious
4. ✗ The mongoose was happy

Question Number : 159 Question Id : 9662316174 Question Type : MCQ Option Shuffling : Yes Display Question Number : Yes
Single Line Question Option : No Option Orientation : Vertical

Correct Marks : 1 Wrong Marks : 0.25

The boy and the big man wrapped the mongoose in _____.

Options :

1. ✗ silk
2. ✓ cotton wool
3. ✗ leaves
4. ✗ woollen clothes

Question Number : 160 Question Id : 9662316175 Question Type : MCQ Option Shuffling : Yes Display Question Number : Yes
Single Line Question Option : No Option Orientation : Vertical

Correct Marks : 1 Wrong Marks : 0.25

Why is it hard to frighten a mongoose?

Options :

1. ✗ They can jump everywhere
2. ✗ They are very fast
3. ✗ They are very cunning
4. ✓ They are very curious

Question Id : 9662316170 Question Type : COMPREHENSION Sub Question Shuffling Allowed : Yes Group Comprehension
Questions : No

Question Numbers : (156 to 160)

Question Label : Comprehension

Read this passage carefully and answer the given questions.

One day, a high summer flood washed a mongoose out of the burrow where he lived with his father and mother, and carried him, kicking and clucking, down a roadside ditch. He found a little wisp of grass floating there, and clung to it till he lost his senses. When he revived, he was lying in the hot sun on the middle of a garden path, very draggled indeed, and a small boy was saying, "Here's a dead mongoose. Let's have a funeral." "No," said his mother, "let's take him in and dry him. Perhaps he isn't really dead." They took him into the house, and a big man picked him up between his finger and thumb and said he was not dead but half choked. So they wrapped him in cotton wool, and warmed him over a little fire, and he opened his eyes and sneezed. "Now," said the big man (he was an Englishman who had just moved into the bungalow), "don't frighten him, and we'll see what he'll do." It is the hardest thing in the world to frighten a mongoose, because he is eaten up from nose to tail with curiosity. The motto of all the mongoose family is "Run and find out," and Rikki-tikki was a true mongoose. He looked at the cotton wool, decided that it was not good to eat, ran all round the table, sat up and put his fur in order, scratched himself, and jumped on the small boy's shoulder. "Don't be frightened, Teddy," said his father.

Sub questions

Question Number : 156 Question Id : 9662316171 Question Type : MCQ Option Shuffling : Yes Display Question Number : Yes
Single Line Question Option : No Option Orientation : Vertical

Correct Marks : 1 Wrong Marks : 0.25

The mongoose was living with his

Options :

1. ✓ mother
2. ✗ brother
3. ✗ enemy
4. ✗ friend

Question Number : 157 Question Id : 9662316172 Question Type : MCQ Option Shuffling : Yes Display Question Number : Yes
Single Line Question Option : No Option Orientation : Vertical

Correct Marks : 1 Wrong Marks : 0.25

The mongoose lost his senses

Options :

1. ✗ after the summer flood
2. ✗ after clinging on to the floating grass
3. ✗ after lying in the hot sun
4. ✓ after clinging the floating grass

Question Number : 158 Question Id : 9662316173 Question Type : MCQ Option Shuffling : Yes Display Question Number : Yes
Single Line Question Option : No Option Orientation : Vertical

Correct Marks : 1 Wrong Marks : 0.25

What did the boy think when he first saw the mongoose?

Options :

1. ✓ The mongoose was dead
2. ✗ The mongoose was half choked
3. ✗ The mongoose was lying unconscious
4. ✗ The mongoose was happy

Question Number : 159 Question Id : 9662316174 Question Type : MCQ Option Shuffling : Yes Display Question Number : Yes
Single Line Question Option : No Option Orientation : Vertical

Correct Marks : 1 Wrong Marks : 0.25

The boy and the big man wrapped the mongoose in

Options :

1. ✗ silk
2. ✓ cotton wool
3. ✗ leaves
4. ✗ woollen clothes

Question Number : 160 Question Id : 9662316175 Question Type : MCQ Option Shuffling : Yes Display Question Number : Yes
Single Line Question Option : No Option Orientation : Vertical

Correct Marks : 1 Wrong Marks : 0.25

Why is it hard to frighten a mongoose?

Options :

1. ✗ They can jump everywhere
2. ✗ They are very fast
3. ✗ They are very cunning
4. ✓ They are very curious

General Hindi 1

Group Number :	9
Group Id :	966231102
Group Maximum Duration :	0
Group Minimum Duration :	0
Revisit allowed for view? :	No
Revisit allowed for edit? :	No
Break time:	0
Group Marks:	20
Revisit allowed for group Instructions? :	Yes
Maximum Instruction Time:	0
Minimum Instruction Time:	0

General Hindi 1

Section Id :	966231217
Section Number :	1
Section type :	Online
Mandatory or Optional:	Mandatory
Number of Questions:	20
Number of Questions to be attempted:	20
Section Marks:	20
Display Number Panel:	Yes
Group All Questions:	No

Sub-Section Number:	1
Sub-Section Id:	966231232
Question Shuffling Allowed :	Yes

Question Number : 161 Question Id : 9662316176 Question Type : MCQ Option Shuffling : Yes Display Question Number : Yes
Single Line Question Option : No Option Orientation : Vertical

Correct Marks : 1 Wrong Marks : 0.25

निम्नलिखित प्रश्न में, चार विकल्पों में से, उस विकल्प का चयन करें जो दिए गए शब्द का सही तत्सम रूप वाला विकल्प हो

पंख

Options :

1. ✘ घर
2. ✔ पक्ष
3. ✘ घृत
4. ✘ पंच

Question Number : 161 Question Id : 9662316176 Question Type : MCQ Option Shuffling : Yes Display Question Number : Yes
Single Line Question Option : No Option Orientation : Vertical

Correct Marks : 1 Wrong Marks : 0.25

निम्नलिखित प्रश्न में, चार विकल्पों में से, उस विकल्प का चयन करें जो दिए गए शब्द का सही तत्सम रूप वाला विकल्प हो

पंख

Options :

1. ✘ घर
2. ✔ पक्ष

3. ✖ घृत
4. ✖ पंच

Question Number : 162 Question Id : 9662316177 Question Type : MCQ Option Shuffling : Yes Display Question Number : Yes
Single Line Question Option : No Option Orientation : Vertical

Correct Marks : 1 Wrong Marks : 0.25

निम्नलिखित प्रश्न में, चार विकल्पों में से, उस विकल्प का चयन करें जो दिए गए शब्द का सही तद्भव रूप वाला विकल्प हो।

सूचिका

Options :

1. ✔ सूई
2. ✖ सब
3. ✖ सौ
4. ✖ साथ

Question Number : 162 Question Id : 9662316177 Question Type : MCQ Option Shuffling : Yes Display Question Number : Yes
Single Line Question Option : No Option Orientation : Vertical

Correct Marks : 1 Wrong Marks : 0.25

निम्नलिखित प्रश्न में, चार विकल्पों में से, उस विकल्प का चयन करें जो दिए गए शब्द का सही तद्भव रूप वाला विकल्प हो।

सूचिका

Options :

1. ✔ सूई
2. ✖ सब
3. ✖ सौ
4. ✖ साथ

Question Number : 163 Question Id : 9662316178 Question Type : MCQ Option Shuffling : Yes Display Question Number : Yes
Single Line Question Option : No Option Orientation : Vertical

Correct Marks : 1 Wrong Marks : 0.25

निम्नलिखित प्रश्न में, चार विकल्पों में से, उस विकल्प का चयन करें जो भाववाचक संज्ञा का सही विकल्प है।

Options :

1. ✔ स्वामित्व
2. ✖ कवि
3. ✖ निकट
4. ✖ कमाना

Question Number : 163 Question Id : 9662316178 Question Type : MCQ Option Shuffling : Yes Display Question Number : Yes
Single Line Question Option : No Option Orientation : Vertical

Correct Marks : 1 Wrong Marks : 0.25

निम्नलिखित प्रश्न में, चार विकल्पों में से, उस विकल्प का चयन करें जो भाववाचक संज्ञा का सही विकल्प है।

Options :

1. ✔ स्वामित्व
2. ✖ कवि
3. ✖ निकट
4. ✖ कमाना

Question Number : 164 Question Id : 9662316179 Question Type : MCQ Option Shuffling : Yes Display Question Number : Yes
Single Line Question Option : No Option Orientation : Vertical

Correct Marks : 1 Wrong Marks : 0.25

निम्नलिखित प्रश्न में, चार विकल्पों में से, उस विकल्प का चयन करें जो कोष्ठक में दिए गए शब्द के अनुसार सर्वनाम के भेद का सही विकल्प हो

(कोई) सड़क पार करवा देगा।

Options :

1. ✘ संबंधवाचक सर्वनाम
2. ✔ अनिश्चयवाचक सर्वनाम
3. ✘ प्रश्नवाचक सर्वनाम
4. ✘ निश्चय वाचक सर्वनाम

Question Number : 164 Question Id : 9662316179 Question Type : MCQ Option Shuffling : Yes Display Question Number : Yes
Single Line Question Option : No Option Orientation : Vertical

Correct Marks : 1 Wrong Marks : 0.25

निम्नलिखित प्रश्न में, चार विकल्पों में से, उस विकल्प का चयन करें जो कोष्ठक में दिए गए शब्द के अनुसार सर्वनाम के भेद का सही विकल्प हो

(कोई) सड़क पार करवा देगा।

Options :

1. ✘ संबंधवाचक सर्वनाम
2. ✔ अनिश्चयवाचक सर्वनाम
3. ✘ प्रश्नवाचक सर्वनाम
4. ✘ निश्चय वाचक सर्वनाम

Question Number : 165 Question Id : 9662316180 Question Type : MCQ Option Shuffling : Yes Display Question Number : Yes
Single Line Question Option : No Option Orientation : Vertical

Correct Marks : 1 Wrong Marks : 0.25

निम्नलिखित प्रश्न में, चार विकल्पों में से, उस विकल्प का चयन करें जो कोष्ठक में दिए गए शब्द के अनुसार विशेषण के भेद वाला विकल्प हो

मेरी कक्षा के कुछ छात्र (विलक्षण) बुद्धि के हैं।

Options :

1. ✘ संख्यावाचक
2. ✘ परिमाणवाचक
3. ✔ गुणवाचक
4. ✘ सार्वनामिक

Question Number : 165 Question Id : 9662316180 Question Type : MCQ Option Shuffling : Yes Display Question Number : Yes
Single Line Question Option : No Option Orientation : Vertical

Correct Marks : 1 Wrong Marks : 0.25

निम्नलिखित प्रश्न में, चार विकल्पों में से, उस विकल्प का चयन करें जो कोष्ठक में दिए गए शब्द के अनुसार विशेषण के भेद वाला विकल्प हो

मेरी कक्षा के कुछ छात्र (विलक्षण) बुद्धि के हैं।

Options :

1. ✘ संख्यावाचक
2. ✘ परिमाणवाचक
3. ✔ गुणवाचक
4. ✘ सार्वनामिक

Question Number : 166 Question Id : 9662316181 Question Type : MCQ Option Shuffling : Yes Display Question Number : Yes
Single Line Question Option : No Option Orientation : Vertical

Correct Marks : 1 Wrong Marks : 0.25

निम्नलिखित प्रश्न में, चार विकल्पों में से, उस विकल्प का चयन करें जो दिए गए शब्द के पर्यायवाची शब्द का सही विकल्प नहीं है।

कुछ

Options :

1. ✘ कतिपय
2. ✘ किंचित
3. ✔ गूढ़
4. ✘ तनिक

Question Number : 166 Question Id : 9662316181 Question Type : MCQ Option Shuffling : Yes Display Question Number : Yes
Single Line Question Option : No Option Orientation : Vertical

Correct Marks : 1 Wrong Marks : 0.25

निम्नलिखित प्रश्न में, चार विकल्पों में से, उस विकल्प का चयन करें जो दिए गए शब्द के पर्यायवाची शब्द का सही विकल्प नहीं है।

कुछ

Options :

1. ✘ कतिपय
2. ✘ किंचित
3. ✔ गूढ़
4. ✘ तनिक

Question Number : 167 Question Id : 9662316182 Question Type : MCQ Option Shuffling : Yes Display Question Number : Yes
Single Line Question Option : No Option Orientation : Vertical

Correct Marks : 1 Wrong Marks : 0.25

निम्नलिखित प्रश्न में, चार विकल्पों में से, उस विकल्प का चयन करें जो दिए गए शब्द के पर्यायवाची शब्द का सही विकल्प नहीं है।

कृतज्ञ

Options :

1. ✔ कृतज्ञ
2. ✘ उपकृत
3. ✘ कृतार्थ
4. ✘ अनुगृहीत

Question Number : 167 Question Id : 9662316182 Question Type : MCQ Option Shuffling : Yes Display Question Number : Yes
Single Line Question Option : No Option Orientation : Vertical

Correct Marks : 1 Wrong Marks : 0.25

निम्नलिखित प्रश्न में, चार विकल्पों में से, उस विकल्प का चयन करें जो दिए गए शब्द के पर्यायवाची शब्द का सही विकल्प नहीं है।

कृतज्ञ

Options :

1. ✔ कृतज्ञ
2. ✘ उपकृत
3. ✘ कृतार्थ
4. ✘ अनुगृहीत

Question Number : 168 Question Id : 9662316183 Question Type : MCQ Option Shuffling : Yes Display Question Number : Yes
Single Line Question Option : No Option Orientation : Vertical

Correct Marks : 1 Wrong Marks : 0.25

निम्नलिखित प्रश्न में, चार विकल्पों में से, उस विकल्प का चयन करें जो दिए गए शब्द के विलोम शब्द का सही विकल्प है।

शाश्वत

Options :

1. ✘ अंतरिक्ष

2. ✓ नश्चर
3. ✗ नित्य
4. ✗ स्थायी

Question Number : 168 Question Id : 9662316183 Question Type : MCQ Option Shuffling : Yes Display Question Number : Yes
Single Line Question Option : No Option Orientation : Vertical

Correct Marks : 1 Wrong Marks : 0.25

निम्नलिखित प्रश्न में, चार विकल्पों में से, उस विकल्प का चयन करें जो दिए गए शब्द के विलोम शब्द का सही विकल्प है।

शाश्वत

Options :

1. ✗ अंतरिक्ष
2. ✓ नश्चर
3. ✗ नित्य
4. ✗ स्थायी

Question Number : 169 Question Id : 9662316184 Question Type : MCQ Option Shuffling : Yes Display Question Number : Yes
Single Line Question Option : No Option Orientation : Vertical

Correct Marks : 1 Wrong Marks : 0.25

निम्नलिखित प्रश्न में, चार विकल्पों में से, उस विकल्प का चयन करें जो दिए गए शब्द के विलोम शब्द का सही विकल्प है।

आग्रह

Options :

1. ✗ मनाना
2. ✗ साग्रह
3. ✗ निराग्रह
4. ✓ दुराग्रह

Question Number : 169 Question Id : 9662316184 Question Type : MCQ Option Shuffling : Yes Display Question Number : Yes
Single Line Question Option : No Option Orientation : Vertical

Correct Marks : 1 Wrong Marks : 0.25

निम्नलिखित प्रश्न में, चार विकल्पों में से, उस विकल्प का चयन करें जो दिए गए शब्द के विलोम शब्द का सही विकल्प है।

आग्रह

Options :

1. ✗ मनाना
2. ✗ साग्रह
3. ✗ निराग्रह
4. ✓ दुराग्रह

Question Number : 170 Question Id : 9662316185 Question Type : MCQ Option Shuffling : Yes Display Question Number : Yes
Single Line Question Option : No Option Orientation : Vertical

Correct Marks : 1 Wrong Marks : 0.25

निम्नलिखित प्रश्न में, चार विकल्पों में से, उस सही विकल्प का चयन करें जो दिए गए शब्द-युग्म के अर्थ का सही विकल्प हो।

रंचक-रंजक

Options :

1. ✗ ज्यादा और मेहंदी
2. ✓ थोड़ा और मेहंदी
3. ✗ रचना और मेहंदी

4. ✘ ढंग और मेहंदी

Question Number : 170 Question Id : 9662316185 Question Type : MCQ Option Shuffling : Yes Display Question Number : Yes
Single Line Question Option : No Option Orientation : Vertical

Correct Marks : 1 Wrong Marks : 0.25

निम्नलिखित प्रश्न में, चार विकल्पों में से, उस सही विकल्प का चयन करें जो दिए गए शब्द-युग्म के अर्थ का सही विकल्प हो।

रंचक-रंजक

Options :

1. ✘ ज्यादा और मेहंदी
2. ✔ थोड़ा और मेहंदी
3. ✘ रचना और मेहंदी
4. ✘ ढंग और मेहंदी

Question Number : 171 Question Id : 9662316186 Question Type : MCQ Option Shuffling : Yes Display Question Number : Yes
Single Line Question Option : No Option Orientation : Vertical

Correct Marks : 1 Wrong Marks : 0.25

निम्नलिखित प्रश्न में, चार विकल्पों में से, उस विकल्प का चयन करें जो दिए गए वाक्यांश के लिए एक शब्द का सही विकल्प है।

सब कुछ जानने वाला

Options :

1. ✘ सर्वहारा
2. ✘ सर्वसम्मत
3. ✘ सापेक्ष
4. ✔ सर्वज्ञ

Question Number : 171 Question Id : 9662316186 Question Type : MCQ Option Shuffling : Yes Display Question Number : Yes
Single Line Question Option : No Option Orientation : Vertical

Correct Marks : 1 Wrong Marks : 0.25

निम्नलिखित प्रश्न में, चार विकल्पों में से, उस विकल्प का चयन करें जो दिए गए वाक्यांश के लिए एक शब्द का सही विकल्प है।

सब कुछ जानने वाला

Options :

1. ✘ सर्वहारा
2. ✘ सर्वसम्मत
3. ✘ सापेक्ष
4. ✔ सर्वज्ञ

Question Number : 172 Question Id : 9662316187 Question Type : MCQ Option Shuffling : Yes Display Question Number : Yes
Single Line Question Option : No Option Orientation : Vertical

Correct Marks : 1 Wrong Marks : 0.25

निम्नलिखित प्रश्न में, चार विकल्पों में से, उस सही विकल्प का चयन करें जो रिक्त स्थान के लिए उचित विकल्प हो।

गलत काम का _____ बुरा ही होता है।

Options :

1. ✘ परिमाण
2. ✘ प्रमाण
3. ✘ प्रणाम
4. ✔ परिणाम

Question Number : 172 Question Id : 9662316187 Question Type : MCQ Option Shuffling : Yes Display Question Number : Yes
Single Line Question Option : No Option Orientation : Vertical

Correct Marks : 1 Wrong Marks : 0.25

निम्नलिखित प्रश्न में, चार विकल्पों में से, उस सही विकल्प का चयन करें जो रिक्त स्थान के लिए उचित विकल्प हो।

गलत काम का _____ बुरा ही होता है।

Options :

1. ✘ परिमाण
2. ✘ प्रमाण
3. ✘ प्रणाम
4. ✔ परिणाम

Question Number : 173 Question Id : 9662316188 Question Type : MCQ Option Shuffling : Yes Display Question Number : Yes
Single Line Question Option : No Option Orientation : Vertical

Correct Marks : 1 Wrong Marks : 0.25

निम्नलिखित प्रश्न में, चार विकल्पों में से, उस विकल्प का चयन करें जो दिए गए शब्द के समानार्थी शब्द का विकल्प नहीं है।

परवाना

Options :

1. ✘ शलभ
2. ✘ भुनगा
3. ✔ ठठरी
4. ✘ फुनगा

Question Number : 173 Question Id : 9662316188 Question Type : MCQ Option Shuffling : Yes Display Question Number : Yes
Single Line Question Option : No Option Orientation : Vertical

Correct Marks : 1 Wrong Marks : 0.25

निम्नलिखित प्रश्न में, चार विकल्पों में से, उस विकल्प का चयन करें जो दिए गए शब्द के समानार्थी शब्द का विकल्प नहीं है।

परवाना

Options :

1. ✘ शलभ
2. ✘ भुनगा
3. ✔ ठठरी
4. ✘ फुनगा

Question Number : 174 Question Id : 9662316189 Question Type : MCQ Option Shuffling : Yes Display Question Number : Yes
Single Line Question Option : No Option Orientation : Vertical

Correct Marks : 1 Wrong Marks : 0.25

निम्नलिखित प्रश्न में, चार विकल्पों में से, उस सही विकल्प का चयन करें जो रिक्त स्थान के लिए उपयुक्त शब्द का सही विकल्प है।

उसके मुँह से फूल _____ है।

Options :

1. ✘ गिरते
2. ✘ पड़ते
3. ✔ झरते
4. ✘ होते

Question Number : 174 Question Id : 9662316189 Question Type : MCQ Option Shuffling : Yes Display Question Number : Yes
Single Line Question Option : No Option Orientation : Vertical

Correct Marks : 1 Wrong Marks : 0.25

निम्नलिखित प्रश्न में, चार विकल्पों में से, उस सही विकल्प का चयन करें जो रिक्त स्थान के लिए उपयुक्त शब्द का सही विकल्प है।

उसके मुँह से फूल ----- है।

Options :

1. ✘ गिरते
2. ✘ पड़ते
3. ✔ झरते
4. ✘ होते

Question Number : 175 Question Id : 9662316190 Question Type : MCQ Option Shuffling : Yes Display Question Number : Yes
Single Line Question Option : No Option Orientation : Vertical

Correct Marks : 1 Wrong Marks : 0.25

निम्नलिखित प्रश्न में, चार विकल्पों में से, उस विकल्प का चयन करें जो शुद्ध शब्द का सही विकल्प है।

Options :

1. ✘ दिव्यदृष्टि
2. ✔ दिव्यदृष्टि
3. ✘ दिव्यदिशाती
4. ✘ दिव्यदिस्ती

Question Number : 175 Question Id : 9662316190 Question Type : MCQ Option Shuffling : Yes Display Question Number : Yes
Single Line Question Option : No Option Orientation : Vertical

Correct Marks : 1 Wrong Marks : 0.25

निम्नलिखित प्रश्न में, चार विकल्पों में से, उस विकल्प का चयन करें जो शुद्ध शब्द का सही विकल्प है।

Options :

1. ✘ दिव्यदृष्टि
2. ✔ दिव्यदृष्टि
3. ✘ दिव्यदिशाती
4. ✘ दिव्यदिस्ती

Question Number : 176 Question Id : 9662316191 Question Type : MCQ Option Shuffling : Yes Display Question Number : Yes
Single Line Question Option : No Option Orientation : Vertical

Correct Marks : 1 Wrong Marks : 0.25

निम्नलिखित प्रश्न में, चार विकल्पों में से, उस विकल्प का चयन करें जो सदा पुल्लिंग वाला शब्द है।

Options :

1. ✘ धुलाई
2. ✔ फैलाव
3. ✘ गरमी
4. ✘ छाती

Question Number : 176 Question Id : 9662316191 Question Type : MCQ Option Shuffling : Yes Display Question Number : Yes
Single Line Question Option : No Option Orientation : Vertical

Correct Marks : 1 Wrong Marks : 0.25

निम्नलिखित प्रश्न में, चार विकल्पों में से, उस विकल्प का चयन करें जो सदा पुल्लिंग वाला शब्द है।

Options :

1. ✘ धुलाई
2. ✔ फैलाव
3. ✘ गरमी
4. ✘ छाती

Question Number : 177 Question Id : 9662316192 Question Type : MCQ Option Shuffling : Yes Display Question Number : Yes
Single Line Question Option : No Option Orientation : Vertical

Correct Marks : 1 Wrong Marks : 0.25

निम्नलिखित प्रश्न में, चार विकल्पों में से, उस विकल्प का चयन करें जो दिए गए शब्द का स्त्रीलिंग शब्द वाला विकल्प है।

तपस्वी

Options :

1. ✓ तपस्विनी
2. ✗ तपसविनी
3. ✗ तपस्वीनी
4. ✗ तपस्या

Question Number : 177 Question Id : 9662316192 Question Type : MCQ Option Shuffling : Yes Display Question Number : Yes
Single Line Question Option : No Option Orientation : Vertical

Correct Marks : 1 Wrong Marks : 0.25

निम्नलिखित प्रश्न में, चार विकल्पों में से, उस विकल्प का चयन करें जो दिए गए शब्द का स्त्रीलिंग शब्द वाला विकल्प है।

तपस्वी

Options :

1. ✓ तपस्विनी
2. ✗ तपसविनी
3. ✗ तपस्वीनी
4. ✗ तपस्या

Question Number : 178 Question Id : 9662316193 Question Type : MCQ Option Shuffling : Yes Display Question Number : Yes
Single Line Question Option : No Option Orientation : Vertical

Correct Marks : 1 Wrong Marks : 0.25

निम्नलिखित प्रश्न में, चार विकल्पों में से, उस विकल्प का चयन करें जो एकवचन शब्द का सबसे अच्छा विकल्प है।

Options :

1. ✗ दर्शक
2. ✗ वे
3. ✗ देशों
4. ✓ पर्वत

Question Number : 178 Question Id : 9662316193 Question Type : MCQ Option Shuffling : Yes Display Question Number : Yes
Single Line Question Option : No Option Orientation : Vertical

Correct Marks : 1 Wrong Marks : 0.25

निम्नलिखित प्रश्न में, चार विकल्पों में से, उस विकल्प का चयन करें जो एकवचन शब्द का सबसे अच्छा विकल्प है।

Options :

1. ✗ दर्शक
2. ✗ वे
3. ✗ देशों
4. ✓ पर्वत

Question Number : 179 Question Id : 9662316194 Question Type : MCQ Option Shuffling : Yes Display Question Number : Yes
Single Line Question Option : No Option Orientation : Vertical

Correct Marks : 1 Wrong Marks : 0.25

निम्नलिखित प्रश्न में, चार विकल्पों में से, उस विकल्प का चयन करें जो दिए गए शब्द के बहुवचन शब्द का सबसे अच्छा विकल्प है।

बुढ़िया

Options :

1. ✓ बुढ़ियाँ
2. ✗ बूढ़ीयों
3. ✗ बुढ़िया
4. ✗ बूढ़ियों

Question Number : 179 Question Id : 9662316194 Question Type : MCQ Option Shuffling : Yes Display Question Number : Yes
Single Line Question Option : No Option Orientation : Vertical

Correct Marks : 1 Wrong Marks : 0.25

निम्नलिखित प्रश्न में, चार विकल्पों में से, उस विकल्प का चयन करें जो दिए गए शब्द के बहुवचन शब्द का सबसे अच्छा विकल्प है।

बुढ़िया

Options :

1. ✓ बुढ़ियाँ
2. ✗ बूढ़ीयों
3. ✗ बुढ़िया
4. ✗ बूढ़ियों

Question Number : 180 Question Id : 9662316195 Question Type : MCQ Option Shuffling : Yes Display Question Number : Yes
Single Line Question Option : No Option Orientation : Vertical

Correct Marks : 1 Wrong Marks : 0.25

निम्नलिखित प्रश्न में, चार विकल्पों में से, उस विकल्प का चयन करें जो कोष्ठक में दिए गए शब्द के अनुसार मध्यम पुरुषवाचक सर्वनाम का सही विकल्प हो।

Options :

1. ✗ (हमने) घर में टाला लगा दिया है।
2. ✓ (आपने) मुझसे मदद क्यों नहीं माँगी?
3. ✗ (मैंने) गरीबों की मदद करने की ठानी है।
4. ✗ (उसने) मेरे साथ चलने का वादा किया है।

Question Number : 180 Question Id : 9662316195 Question Type : MCQ Option Shuffling : Yes Display Question Number : Yes
Single Line Question Option : No Option Orientation : Vertical

Correct Marks : 1 Wrong Marks : 0.25

निम्नलिखित प्रश्न में, चार विकल्पों में से, उस विकल्प का चयन करें जो कोष्ठक में दिए गए शब्द के अनुसार मध्यम पुरुषवाचक सर्वनाम का सही विकल्प हो।

Options :

1. ✗ (हमने) घर में टाला लगा दिया है।
2. ✓ (आपने) मुझसे मदद क्यों नहीं माँगी?
3. ✗ (मैंने) गरीबों की मदद करने की ठानी है।
4. ✗ (उसने) मेरे साथ चलने का वादा किया है।

General Hindi2

Group Number :	10
Group Id :	966231103
Group Maximum Duration :	0
Group Minimum Duration :	120
Revisit allowed for view? :	No
Revisit allowed for edit? :	No

Break time:	0
Group Marks:	20
Revisit allowed for group Instructions? :	Yes
Maximum Instruction Time:	0
Minimum Instruction Time:	0

General Hindi2

Section Id :	966231218
Section Number :	1
Section type :	Online
Mandatory or Optional:	Mandatory
Number of Questions:	16
Number of Questions to be attempted:	16
Section Marks:	20
Display Number Panel:	Yes
Group All Questions:	No

Sub-Section Number:	1
Sub-Section Id:	966231233
Question Shuffling Allowed :	Yes

Question Number : 181 Question Id : 9662316196 Question Type : MCQ Option Shuffling : Yes Display Question Number : Yes
Single Line Question Option : No Option Orientation : Vertical

Correct Marks : 1 Wrong Marks : 0.25

निम्नलिखित प्रश्न में, चार विकल्पों में से, उस विकल्प का चयन करें जो दिए गए वाक्य के काल के भेद का सही विकल्प हो।

नाना जी सैर करके आ गए हैं।

Options :

1. ✘ हेतुहेतु मद् भूतकाल
2. ✔ आसन्न भूतकाल
3. ✘ अपूर्ण भूतकाल
4. ✘ हेतुहेतुमद् भविष्यत् काल

Question Number : 181 Question Id : 9662316196 Question Type : MCQ Option Shuffling : Yes Display Question Number : Yes
Single Line Question Option : No Option Orientation : Vertical

Correct Marks : 1 Wrong Marks : 0.25

निम्नलिखित प्रश्न में, चार विकल्पों में से, उस विकल्प का चयन करें जो दिए गए वाक्य के काल के भेद का सही विकल्प हो।

नाना जी सैर करके आ गए हैं।

Options :

1. ✘ हेतुहेतु मद् भूतकाल
2. ✔ आसन्न भूतकाल
3. ✘ अपूर्ण भूतकाल
4. ✘ हेतुहेतुमद् भविष्यत् काल

Question Number : 182 Question Id : 9662316197 Question Type : MCQ Option Shuffling : Yes Display Question Number : Yes
Single Line Question Option : No Option Orientation : Vertical

Correct Marks : 1 Wrong Marks : 0.25

निम्नलिखित प्रश्न में, चार विकल्पों में से, उस विकल्प का चयन करें जो दिए गए वाक्य के लिए वृत्ति के भेद का सबसे अच्छा विकल्प है।

उसे काम मिल गया होगा।

Options :

1. ✘ विध्यर्थ
2. ✘ संकेतार्थ
3. ✔ संदेहार्थ
4. ✘ निश्चयार्थ

Question Number : 182 Question Id : 9662316197 Question Type : MCQ Option Shuffling : Yes Display Question Number : Yes
Single Line Question Option : No Option Orientation : Vertical

Correct Marks : 1 Wrong Marks : 0.25

निम्नलिखित प्रश्न में, चार विकल्पों में से, उस विकल्प का चयन करें जो दिए गए वाक्य के लिए वृत्ति के भेद का सबसे अच्छा विकल्प है।

उसे काम मिल गया होगा।

Options :

1. ✘ विध्यर्थ
2. ✘ संकेतार्थ
3. ✔ संदेहार्थ
4. ✘ निश्चयार्थ

Question Number : 183 Question Id : 9662316198 Question Type : MCQ Option Shuffling : Yes Display Question Number : Yes
Single Line Question Option : No Option Orientation : Vertical

Correct Marks : 1 Wrong Marks : 0.25

निम्नलिखित प्रश्न में, चार विकल्पों में से, उस विकल्प का चयन करें जो दिए गए वाक्य के लिए पक्ष के भेद का सबसे अच्छा विकल्प है।

तालाब का पानी बढ़ता ही जा रहा है।

Options :

1. ✘ सातप्यबोधक
2. ✘ नित्यताद्योतक
3. ✔ प्रगतिद्योतक
4. ✘ आरंभद्योतक

Question Number : 183 Question Id : 9662316198 Question Type : MCQ Option Shuffling : Yes Display Question Number : Yes
Single Line Question Option : No Option Orientation : Vertical

Correct Marks : 1 Wrong Marks : 0.25

निम्नलिखित प्रश्न में, चार विकल्पों में से, उस विकल्प का चयन करें जो दिए गए वाक्य के लिए पक्ष के भेद का सबसे अच्छा विकल्प है।

तालाब का पानी बढ़ता ही जा रहा है।

Options :

1. ✘ सातप्यबोधक
2. ✘ नित्यताद्योतक
3. ✔ प्रगतिद्योतक
4. ✘ आरंभद्योतक

Question Number : 184 Question Id : 9662316199 Question Type : MCQ Option Shuffling : Yes Display Question Number : Yes
Single Line Question Option : No Option Orientation : Vertical

Correct Marks : 1 Wrong Marks : 0.25

निम्न विकल्पों में से निर्देशानुसार वाच्य परिवर्तन का विकल्प चुनिए।

हमारे द्वारा नाटक देखा गया (कर्तृवाच्य)

Options :

1. ✘ देखा नाटक हमने
2. ✔ हमने नाटक देखा
3. ✘ नाटक हमने देखा
4. ✘ नाटक को हमने देखा

Question Number : 184 Question Id : 9662316199 Question Type : MCQ Option Shuffling : Yes Display Question Number : Yes
Single Line Question Option : No Option Orientation : Vertical

Correct Marks : 1 Wrong Marks : 0.25

निम्न विकल्पों में से निर्देशानुसार वाच्य परिवर्तन का विकल्प चुनिए।

हमारे द्वारा नाटक देखा गया (कर्तृवाच्य)

Options :

1. ✘ देखा नाटक हमने
2. ✔ हमने नाटक देखा
3. ✘ नाटक हमने देखा
4. ✘ नाटक को हमने देखा

Question Number : 185 Question Id : 9662316200 Question Type : MCQ Option Shuffling : Yes Display Question Number : Yes
Single Line Question Option : No Option Orientation : Vertical

Correct Marks : 1 Wrong Marks : 0.25

निम्नलिखित प्रश्न में, चार विकल्पों में से, उस विकल्प का चयन करें जो सही वाक्य भेद का विकल्प हो।

जल्दी करो नहीं तो देर हो जाएगी।

Options :

1. ✘ मिश्र वाक्य
2. ✔ संयुक्त वाक्य
3. ✘ निषेधवाचक वाक्य
4. ✘ सरल वाक्य

Question Number : 185 Question Id : 9662316200 Question Type : MCQ Option Shuffling : Yes Display Question Number : Yes
Single Line Question Option : No Option Orientation : Vertical

Correct Marks : 1 Wrong Marks : 0.25

निम्नलिखित प्रश्न में, चार विकल्पों में से, उस विकल्प का चयन करें जो सही वाक्य भेद का विकल्प हो।

जल्दी करो नहीं तो देर हो जाएगी।

Options :

1. ✘ मिश्र वाक्य
2. ✔ संयुक्त वाक्य
3. ✘ निषेधवाचक वाक्य
4. ✘ सरल वाक्य

Question Number : 186 Question Id : 9662316201 Question Type : MCQ Option Shuffling : Yes Display Question Number : Yes
Single Line Question Option : No Option Orientation : Vertical

Correct Marks : 1 Wrong Marks : 0.25

निम्नलिखित प्रश्न में, चार विकल्पों में से, उस विकल्प का चयन करें जो सही वाक्य भेद का विकल्प हो

मेरी माता जी घर पर नहीं हैं

Options :

1. ✘ संयुक्त वाक्य
2. ✘ मिश्र वाक्य
3. ✘ संदेहवाचक वाक्य
4. ✔ सरल वाक्य

Question Number : 186 Question Id : 9662316201 Question Type : MCQ Option Shuffling : Yes Display Question Number : Yes
Single Line Question Option : No Option Orientation : Vertical

Correct Marks : 1 Wrong Marks : 0.25

निम्नलिखित प्रश्न में, चार विकल्पों में से, उस विकल्प का चयन करें जो सही वाक्य भेद का विकल्प हो

मेरी माता जी घर पर नहीं हैं

Options :

1. ✘ संयुक्त वाक्य
2. ✘ मिश्र वाक्य
3. ✘ संदेहवाचक वाक्य
4. ✔ सरल वाक्य

Question Number : 187 Question Id : 9662316202 Question Type : MCQ Option Shuffling : Yes Display Question Number : Yes
Single Line Question Option : No Option Orientation : Vertical

Correct Marks : 1 Wrong Marks : 0.25

निम्नलिखित प्रश्न में, चार विकल्पों में से, उस विकल्प का चयन करें जो सही वाक्य भेद का विकल्प हो

उस कुत्ते को पकड़ो, जो बच्चे को काँटने जा रहा है

Options :

1. ✘ विधानवाचक वाक्य
2. ✘ सरल वाक्य
3. ✔ मिश्र वाक्य
4. ✘ संयुक्त वाक्य

Question Number : 187 Question Id : 9662316202 Question Type : MCQ Option Shuffling : Yes Display Question Number : Yes
Single Line Question Option : No Option Orientation : Vertical

Correct Marks : 1 Wrong Marks : 0.25

निम्नलिखित प्रश्न में, चार विकल्पों में से, उस विकल्प का चयन करें जो सही वाक्य भेद का विकल्प हो

उस कुत्ते को पकड़ो, जो बच्चे को काँटने जा रहा है

Options :

1. ✘ विधानवाचक वाक्य
2. ✘ सरल वाक्य
3. ✔ मिश्र वाक्य
4. ✘ संयुक्त वाक्य

Question Number : 188 Question Id : 9662316203 Question Type : MCQ Option Shuffling : Yes Display Question Number : Yes
Single Line Question Option : No Option Orientation : Vertical

Correct Marks : 1 Wrong Marks : 0.25

निम्नलिखित प्रश्न में, चार विकल्पों में से, उस विकल्प का चयन करें जो विराम चिह्न युक्त वाक्य का सही विकल्प हो

Options :

1. ✓ मैं तुम्हें जानता तक नहीं, उधार कैसे दे दूँ
2. ✗ मैं तुम्हें जानता तक नहीं, उधार कैसे दे दूँ
3. ✗ मैं तुम्हें जानता तक नहीं, "उधार कैसे दे दूँ"
4. ✗ मैं तुम्हें जानता तक नहीं- उधार कैसे दे दूँ

Question Number : 188 Question Id : 9662316203 Question Type : MCQ Option Shuffling : Yes Display Question Number : Yes
Single Line Question Option : No Option Orientation : Vertical

Correct Marks : 1 Wrong Marks : 0.25

निम्नलिखित प्रश्न में, चार विकल्पों में से, उस विकल्प का चयन करें जो विराम चिह्न युक्त वाक्य का सही विकल्प हो

Options :

1. ✓ मैं तुम्हें जानता तक नहीं, उधार कैसे दे दूँ
2. ✗ मैं तुम्हें जानता तक नहीं, उधार कैसे दे दूँ
3. ✗ मैं तुम्हें जानता तक नहीं, "उधार कैसे दे दूँ"
4. ✗ मैं तुम्हें जानता तक नहीं- उधार कैसे दे दूँ

Question Number : 189 Question Id : 9662316204 Question Type : MCQ Option Shuffling : Yes Display Question Number : Yes
Single Line Question Option : No Option Orientation : Vertical

Correct Marks : 1 Wrong Marks : 0.25

निम्नलिखित प्रश्न में, चार विकल्पों में से, उस विकल्प का चयन करें जो विराम चिह्न युक्त वाक्य का सही विकल्प हो

Options :

1. ✗ हमारी इमारत का निर्माण 14 अगस्त, 1990 में हुआ था?
2. ✗ हमारी इमारत का निर्माण 14 अगस्त 1990 में हुआ था
3. ✗ हमारी इमारत का निर्माण, 14 अगस्त, 1990, में हुआ था
4. ✓ हमारी इमारत का निर्माण 14 अगस्त, 1990 में हुआ था

Question Number : 189 Question Id : 9662316204 Question Type : MCQ Option Shuffling : Yes Display Question Number : Yes
Single Line Question Option : No Option Orientation : Vertical

Correct Marks : 1 Wrong Marks : 0.25

निम्नलिखित प्रश्न में, चार विकल्पों में से, उस विकल्प का चयन करें जो विराम चिह्न युक्त वाक्य का सही विकल्प हो

Options :

1. ✗ हमारी इमारत का निर्माण 14 अगस्त, 1990 में हुआ था?
2. ✗ हमारी इमारत का निर्माण 14 अगस्त 1990 में हुआ था
3. ✗ हमारी इमारत का निर्माण, 14 अगस्त, 1990, में हुआ था
4. ✓ हमारी इमारत का निर्माण 14 अगस्त, 1990 में हुआ था

Question Number : 190 Question Id : 9662316205 Question Type : MCQ Option Shuffling : Yes Display Question Number : Yes
Single Line Question Option : No Option Orientation : Vertical

Correct Marks : 1 Wrong Marks : 0.25

निम्नलिखित प्रश्न में, चार विकल्पों में से, उस विकल्प का चयन करें जो दिए गए मुहावरे के लिए सही अर्थ वाला विकल्प है

उँगली कान में देना

Options :

1. ✓ कुछ न सुनना
2. ✗ दर्द देना
3. ✗ नुकसान करना
4. ✗ दोष लगाना

Question Number : 190 Question Id : 9662316205 Question Type : MCQ Option Shuffling : Yes Display Question Number : Yes
Single Line Question Option : No Option Orientation : Vertical

Correct Marks : 1 Wrong Marks : 0.25

निम्नलिखित प्रश्न में, चार विकल्पों में से, उस विकल्प का चयन करें जो दिए गए मुहावरे के लिए सही अर्थ वाला विकल्प है

उँगली कान में देना

Options :

1. ✓ कुछ न सुनना
2. ✗ दर्द देना
3. ✗ नुकसान करना
4. ✗ दोष लगाना

Question Number : 191 Question Id : 9662316206 Question Type : MCQ Option Shuffling : Yes Display Question Number : Yes
Single Line Question Option : No Option Orientation : Vertical

Correct Marks : 1 Wrong Marks : 0.25

निम्नलिखित प्रश्न में, चार विकल्पों में से, उस विकल्प का चयन करें जो दिए गए मुहावरे के लिए सही अर्थ वाला विकल्प है

उलटा तवा

Options :

1. ✗ बेकार व्यक्ति
2. ✗ किसी काम का नहीं
3. ✓ बहुत काला
4. ✗ दुर्लभ चीज़

Question Number : 191 Question Id : 9662316206 Question Type : MCQ Option Shuffling : Yes Display Question Number : Yes
Single Line Question Option : No Option Orientation : Vertical

Correct Marks : 1 Wrong Marks : 0.25

निम्नलिखित प्रश्न में, चार विकल्पों में से, उस विकल्प का चयन करें जो दिए गए मुहावरे के लिए सही अर्थ वाला विकल्प है

उलटा तवा

Options :

1. ✗ बेकार व्यक्ति
2. ✗ किसी काम का नहीं
3. ✓ बहुत काला
4. ✗ दुर्लभ चीज़

Question Number : 192 Question Id : 9662316207 Question Type : MCQ Option Shuffling : Yes Display Question Number : Yes
Single Line Question Option : No Option Orientation : Vertical

Correct Marks : 1 Wrong Marks : 0.25

निम्नलिखित प्रश्न में, चार विकल्पों में से, उस विकल्प का चयन करें जो दिए गए मुहावरे के लिए सही अर्थ वाला विकल्प है

एक न चलना

Options :

1. ✗ चलने में असमर्थ
2. ✓ कोई उपाय काम न आना
3. ✗ बेकार व्यक्ति
4. ✗ साथ न देना

Question Number : 192 Question Id : 9662316207 Question Type : MCQ Option Shuffling : Yes Display Question Number : Yes
Single Line Question Option : No Option Orientation : Vertical

Correct Marks : 1 Wrong Marks : 0.25

निम्नलिखित प्रश्न में, चार विकल्पों में से, उस विकल्प का चयन करें जो दिए गए मुहावरे के लिए सही अर्थ वाला विकल्प है।

एक न चलना

Options :

- ✘ चलने में असमर्थ
- ✔ कोई उपाय काम न आना
- ✘ बेकार व्यक्ति
- ✘ साथ न देना

Question Number : 193 Question Id : 9662316208 Question Type : MCQ Option Shuffling : Yes Display Question Number : Yes
Single Line Question Option : No Option Orientation : Vertical

Correct Marks : 1 Wrong Marks : 0.25

निम्नलिखित प्रश्न में, चार विकल्पों में से, उस विकल्प का चयन करें जो दी गई लोकोक्ति के लिए सही अर्थ वाला विकल्प है।

बक़रे की माँ कब तक खैर मनाएगी

Options :

- ✘ अयोग्यता छिपाना
- ✘ कोई रक्षक न होना
- ✘ संग का प्रभाव पड़ना
- ✔ जो कुछ होना है, वह होकर ही रहेगा

Question Number : 193 Question Id : 9662316208 Question Type : MCQ Option Shuffling : Yes Display Question Number : Yes
Single Line Question Option : No Option Orientation : Vertical

Correct Marks : 1 Wrong Marks : 0.25

निम्नलिखित प्रश्न में, चार विकल्पों में से, उस विकल्प का चयन करें जो दी गई लोकोक्ति के लिए सही अर्थ वाला विकल्प है।

बक़रे की माँ कब तक खैर मनाएगी

Options :

- ✘ अयोग्यता छिपाना
- ✘ कोई रक्षक न होना
- ✘ संग का प्रभाव पड़ना
- ✔ जो कुछ होना है, वह होकर ही रहेगा

Question Number : 194 Question Id : 9662316209 Question Type : MCQ Option Shuffling : Yes Display Question Number : Yes
Single Line Question Option : No Option Orientation : Vertical

Correct Marks : 1 Wrong Marks : 0.25

निम्नलिखित प्रश्न में, चार विकल्पों में से, उस विकल्प का चयन करें जो दी गई लोकोक्ति के लिए सही अर्थ वाला विकल्प है।

बेकार से बेगार भला

Options :

- ✘ कुछ मिलने की उम्मीद
- ✘ नुकसान होना
- ✔ निकम्मा बैठने से बेहतर है कुछ काम करना
- ✘ ज़बरदस्ती काम करना

Question Number : 194 Question Id : 9662316209 Question Type : MCQ Option Shuffling : Yes Display Question Number : Yes
Single Line Question Option : No Option Orientation : Vertical

Correct Marks : 1 Wrong Marks : 0.25

निम्नलिखित प्रश्न में, चार विकल्पों में से, उस विकल्प का चयन करें जो दी गई लोकोक्ति के लिए सही अर्थ वाला विकल्प है।

बेकार से बेगार भला

Options :

1. ✘ कुछ मिलने की उम्मीद
2. ✘ नुकसान होना
3. ✔ निकम्मा बैठने से बेहतर है कुछ काम करना
4. ✘ ज़बरदस्ती काम करना

Question Number : 195 Question Id : 9662316210 Question Type : MCQ Option Shuffling : Yes Display Question Number : Yes
Single Line Question Option : No Option Orientation : Vertical

Correct Marks : 1 Wrong Marks : 0.25

निम्नलिखित प्रश्न में, चार विकल्पों में से, उस सही विकल्प का चयन करें जो दी गई लोकोक्ति के लिए सही अर्थ वाला विकल्प है

हाथी निकल गया, दुम रह गई

Options :

1. ✘ अकड़ में रहना
2. ✔ थोड़ा-सा बाकी रह जाना
3. ✘ कार्य शुरू होते ही विघ्न आना
4. ✘ बिना खर्च अच्छा काम

Question Number : 195 Question Id : 9662316210 Question Type : MCQ Option Shuffling : Yes Display Question Number : Yes
Single Line Question Option : No Option Orientation : Vertical

Correct Marks : 1 Wrong Marks : 0.25

निम्नलिखित प्रश्न में, चार विकल्पों में से, उस सही विकल्प का चयन करें जो दी गई लोकोक्ति के लिए सही अर्थ वाला विकल्प है

हाथी निकल गया, दुम रह गई

Options :

1. ✘ अकड़ में रहना
2. ✔ थोड़ा-सा बाकी रह जाना
3. ✘ कार्य शुरू होते ही विघ्न आना
4. ✘ बिना खर्च अच्छा काम

Sub-Section Number: 2
Sub-Section Id: 966231234
Question Shuffling Allowed : Yes

Question Id : 9662316211 Question Type : COMPREHENSION Sub Question Shuffling Allowed : Yes Group Comprehension
Questions : No

Question Numbers : (196 to 200)

Question Label : Comprehension

नीचे दिए गए गद्यांश को ध्यानपूर्वक पढ़ें और प्रश्न का सर्वोत्तम उत्तर चुनें

महंगाई या मूल्यवृद्धि से आज समस्त विश्व त्रस्त है। भारत बढ़ती महंगाई की चपेट में बुरी तरह से जकड़ा हुआ है। जीवनोपयोगी वस्तुओं के दाम दिन-प्रतिदिन बढ़ते जा रहे हैं जिनसे जन-साधारण को अत्यंत कठिनाई का सामना करना पड़ रहा है। महंगाई से देश के आर्थिक ढाँचे पर अत्यधिक दबाव पड़ रहा है। महंगाई के निर्मम चरण अनवरत रूप से अग्रसर हैं, पता नहीं वे कब व कहीं रुकेंगे। आज कोई भी वस्तु बाजार में सस्ते दामों पर उपलब्ध नहीं है, समाज का प्रत्येक वर्ग महंगाई की मार को अनाहूत अतिथि की तरह सहन कर रहा है, इसका सर्वग्राही प्रभाव जीवन के प्रत्येक क्षेत्र पर पड़ रहा है। सरकारी योजनाओं पर अत्यधिक खर्च हो रहा है। अपने स्वार्थ के लिए लोगों में धार्मिक, सामाजिक तथा नैतिक मान्यताएं पीछे हूट जाती हैं और भ्रष्टाचार का बोलबाला हो जाता है। अर्थशास्त्र की मान्यता है कि यदि किसी वस्तु की माँग उत्पादन से अधिक हो तो मूल्यों में स्वाभाविक रूप से वृद्धि हो जाती है।

Sub questions

Question Number : 196 Question Id : 9662316212 Question Type : MCQ Option Shuffling : Yes Display Question Number : Yes
Single Line Question Option : No Option Orientation : Vertical

Correct Marks : 1 Wrong Marks : 0.25

आज महँगाई से कौन दुखी है?

Options :

1. ✘ उद्योगपति
2. ✔ सारा विश्व
3. ✘ चीन
4. ✘ नेपाल

Question Number : 197 Question Id : 9662316213 Question Type : MCQ Option Shuffling : Yes Display Question Number : Yes
Single Line Question Option : No Option Orientation : Vertical

Correct Marks : 1 Wrong Marks : 0.25

महँगाई से देश का कौन-सा ढाँचा डगमगा रहा है?

Options :

1. ✘ सामाजिक
2. ✘ राजनैतिक
3. ✔ आर्थिक
4. ✘ नैतिक

Question Number : 198 Question Id : 9662316214 Question Type : MCQ Option Shuffling : Yes Display Question Number : Yes
Single Line Question Option : No Option Orientation : Vertical

Correct Marks : 1 Wrong Marks : 0.25

अर्थशास्त्र के अनुसार महँगाई का कारण क्या है?

Options :

1. ✔ उत्पादन से अधिक माँग
2. ✘ माँग से अधिक उत्पादन
3. ✘ धार्मिक मान्यताएँ
4. ✘ राजनैतिक दबाव

Question Number : 199 Question Id : 9662316215 Question Type : MCQ Option Shuffling : Yes Display Question Number : Yes
Single Line Question Option : No Option Orientation : Vertical

Correct Marks : 1 Wrong Marks : 0.25

इनमें से कौन - सा अनाहूत का विलोम शब्द है?

Options :

1. ✘ हत
2. ✘ अहूत
3. ✘ नाहूत
4. ✔ आहूत

Question Number : 200 Question Id : 9662316216 Question Type : MCQ Option Shuffling : Yes Display Question Number : Yes
Single Line Question Option : No Option Orientation : Vertical

Correct Marks : 1 Wrong Marks : 0.25

इस अनुच्छेद का कोई उपयुक्त शीर्षक-

Options :

1. ✘ भ्रष्टाचार
2. ✘ अर्थशास्त्र
3. ✔ महँगाई
4. ✘ जमाखोरी

Question Id : 9662316211 Question Type : COMPREHENSION Sub Question Shuffling Allowed : Yes Group Comprehension Questions : No

Question Numbers : (196 to 200)

Question Label : Comprehension

नीचे दिए गए गद्यांश को ध्यानपूर्वक पढ़ें और प्रश्न का सर्वोत्तम उत्तर चुनें

महंगाई या मूल्यवृद्धि से आज समस्त विश्व त्रस्त है। भारत बढ़ती महंगाई की चपेट में बुरी तरह से जकड़ा हुआ है। जीवनोपयोगी वस्तुओं के दाम दिन-प्रतिदिन बढ़ते जा रहे हैं जिनसे जन-साधारण को अत्यंत कठिनाई का सामना करना पड़ रहा है। महंगाई से देश के आर्थिक ढाँचे पर अत्यधिक दबाव पड़ रहा है। महंगाई के निर्मम चरण अनवरत रूप से अग्रसर हैं, पता नहीं वे कब व कहीं रुकेंगे। आज कोई भी वस्तु बाजार में सस्ते दामों पर उपलब्ध नहीं है, समाज का प्रत्येक वर्ग महंगाई की मार को अनाहूत अतिथि की तरह सहन कर रहा है, इसका सर्वग्राही प्रभाव जीवन के प्रत्येक क्षेत्र पर पड़ रहा है। सरकारी योजनाओं पर अत्यधिक खर्च हो रहा है। अपने स्वार्थ के लिए लोगों में धार्मिक, सामाजिक तथा नैतिक मान्यताएं पीछे हूट जाती हैं और भ्रष्टाचार का बोलबाला हो जाता है। अर्थशास्त्र की मान्यता है कि यदि किसी वस्तु की माँग उत्पादन से अधिक हो तो मूल्यों में स्वाभाविक रूप से वृद्धि हो जाती है।

Sub questions

Question Number : 196 Question Id : 9662316212 Question Type : MCQ Option Shuffling : Yes Display Question Number : Yes Single Line Question Option : No Option Orientation : Vertical

Correct Marks : 1 Wrong Marks : 0.25

आज महंगाई से कौन दुखी है?

Options :

1. ✘ उद्योगपति
2. ✔ सारा विश्व
3. ✘ चीन
4. ✘ नेपाल

Question Number : 197 Question Id : 9662316213 Question Type : MCQ Option Shuffling : Yes Display Question Number : Yes Single Line Question Option : No Option Orientation : Vertical

Correct Marks : 1 Wrong Marks : 0.25

महंगाई से देश का कौन-सा ढाँचा डगमगा रहा है?

Options :

1. ✘ सामाजिक
2. ✘ राजनैतिक
3. ✔ आर्थिक
4. ✘ नैतिक

Question Number : 198 Question Id : 9662316214 Question Type : MCQ Option Shuffling : Yes Display Question Number : Yes Single Line Question Option : No Option Orientation : Vertical

Correct Marks : 1 Wrong Marks : 0.25

अर्थशास्त्र के अनुसार महंगाई का कारण क्या है?

Options :

1. ✔ उत्पादन से अधिक माँग
2. ✘ माँग से अधिक उत्पादन
3. ✘ धार्मिक मान्यताएँ
4. ✘ राजनैतिक दबाव

Question Number : 199 Question Id : 9662316215 Question Type : MCQ Option Shuffling : Yes Display Question Number : Yes Single Line Question Option : No Option Orientation : Vertical

Correct Marks : 1 Wrong Marks : 0.25

इनमें से कौन - सा अनाहूत का विलोम शब्द है?

Options :

1. ✘ हत
2. ✘ अहूत

3. ✘ नाहूत

4. ✔ आहूत

Question Number : 200 Question Id : 9662316216 Question Type : MCQ Option Shuffling : Yes Display Question Number : Yes
Single Line Question Option : No Option Orientation : Vertical

Correct Marks : 1 Wrong Marks : 0.25

इस अनुच्छेद का कोई उपयुक्त शीर्षक-

Options :

1. ✘ भ्रष्टाचार

2. ✘ अर्थशास्त्र

3. ✔ महँगाई

4. ✘ जमाखोरी