

# Education Consultant India Ltd.

## Notations :

- 1.Options shown in green color and with ✓ icon are correct.
- 2.Options shown in red color and with ✗ icon are incorrect.

<b>Question Paper Name:</b>	Lower Division Clerk 25th August 2019 S2
<b>Subject Name:</b>	LOWER DIVISION CLERK
<b>Creation Date:</b>	2019-08-25 15:42:29
<b>Duration:</b>	120
<b>Total Marks:</b>	200
<b>Display Marks:</b>	Yes
<b>Share Answer Key With Delivery Engine:</b>	No
<b>Actual Answer Key:</b>	Yes
<b>Calculator:</b>	None
<b>Magnifying Glass Required?:</b>	No
<b>Ruler Required?:</b>	No
<b>Eraser Required?:</b>	No
<b>Scratch Pad Required?:</b>	No
<b>Rough Sketch/Notepad Required?:</b>	No
<b>Protractor Required?:</b>	No
<b>Show Watermark on Console?:</b>	Yes
<b>Highlighter:</b>	No
<b>Auto Save on Console?:</b>	No

## Mental Ability 1

<b>Group Number :</b>	1
<b>Group Id :</b>	96623164
<b>Group Maximum Duration :</b>	0
<b>Group Minimum Duration :</b>	0
<b>Revisit allowed for view? :</b>	No
<b>Revisit allowed for edit? :</b>	No
<b>Break time:</b>	0
<b>Group Marks:</b>	20
<b>Revisit allowed for group Instructions? :</b>	Yes
<b>Maximum Instruction Time:</b>	0
<b>Minimum Instruction Time:</b>	0

## Mental Ability 1

<b>Section Id :</b>	966231179
<b>Section Number :</b>	1
<b>Section type :</b>	Online
<b>Mandatory or Optional:</b>	Mandatory
<b>Number of Questions:</b>	20
<b>Number of Questions to be attempted:</b>	20
<b>Section Marks:</b>	20

Display Number Panel: Yes  
Group All Questions: No

Sub-Section Number: 1  
Sub-Section Id: 966231187  
Question Shuffling Allowed : Yes

Question Number : 1 Question Id : 9662315409 Question Type : MCQ Option Shuffling : Yes Display Question Number : Yes  
Single Line Question Option : No Option Orientation : Vertical

Correct Marks : 1 Wrong Marks : 0.25

A letter series id given below of which only one letter is INCORRECT. Find that letter.

A, A, B, C, E, H, M, N, U

Options :

1. ✘ B
2. ✘ C
3. ✔ N
4. ✘ U

Question Number : 1 Question Id : 9662315409 Question Type : MCQ Option Shuffling : Yes Display Question Number : Yes  
Single Line Question Option : No Option Orientation : Vertical

Correct Marks : 1 Wrong Marks : 0.25

यहां एक अक्षर श्रृंखला दी गई है, श्रृंखला में केवल एक अक्षर गलत है, गलत अक्षर को ज्ञात करें।

A, A, B, C, E, H, M, N, U

Options :

1. ✘ B
2. ✘ C
3. ✔ N
4. ✘ U

Question Number : 2 Question Id : 9662315410 Question Type : MCQ Option Shuffling : Yes Display Question Number : Yes  
Single Line Question Option : No Option Orientation : Vertical

Correct Marks : 1 Wrong Marks : 0.25

Find the missing letter in the given series.

D, F, I, M, R, ?

Options :

1. ✘ W
2. ✘ Y
3. ✔ X
4. ✘ Z

Question Number : 2 Question Id : 9662315410 Question Type : MCQ Option Shuffling : Yes Display Question Number : Yes  
Single Line Question Option : No Option Orientation : Vertical

Correct Marks : 1 Wrong Marks : 0.25

निम्नलिखित अक्षर श्रृंखला में लुप्त संख्या ज्ञात करें।

D, F, I, M, R, ?

Options :

1. ✘ W
2. ✘ Y
3. ✔ X
4. ✘ Z

Question Number : 3 Question Id : 9662315411 Question Type : MCQ Option Shuffling : Yes Display Question Number : Yes  
Single Line Question Option : No Option Orientation : Vertical

Correct Marks : 1 Wrong Marks : 0.25

Arrange the following words as per order in the dictionary and choose the third word.

Ghost  
Ghostly  
Ghastly  
Godliness  
Google  
Geography

Options :

1. ✘ Google
2. ✔ Ghost
3. ✘ Geography
4. ✘ Ghostly

Question Number : 3 Question Id : 9662315411 Question Type : MCQ Option Shuffling : Yes Display Question Number : Yes  
Single Line Question Option : No Option Orientation : Vertical

Correct Marks : 1 Wrong Marks : 0.25

निम्नलिखित शब्दों को शब्दकोश के क्रम के अनुसार व्यवस्थित करें और तीसरा आने वाले शब्द को चुनें

Ghost  
Ghostly  
Ghastly  
Godliness  
Google  
Geography

Options :

1. ✘ Google
2. ✔ Ghost
3. ✘ Geography
4. ✘ Ghostly

Question Number : 4 Question Id : 9662315412 Question Type : MCQ Option Shuffling : Yes Display Question Number : Yes  
Single Line Question Option : No Option Orientation : Vertical

Correct Marks : 1 Wrong Marks : 0.25

Select the set of words that are analogous to the given set of words.

Brush : Paper

Options :

1. ✘ Ink : Inkpot
2. ✘ Pencil : Pen
3. ✔ Pen : Paper
4. ✘ Battery : Remote

Question Number : 4 Question Id : 9662315412 Question Type : MCQ Option Shuffling : Yes Display Question Number : Yes  
Single Line Question Option : No Option Orientation : Vertical

Correct Marks : 1 Wrong Marks : 0.25

उन शब्दों के सेट का चयन करें जो शब्दों के दिए गए सेट के अनुरूप हैं।

ब्रश: कागज

Options :

- ✘ स्याही : दवात
- ✘ पेंसिल : कलम
- ✔ कलम : कागज
- ✘ बैटरी : रिमोट

Question Number : 5 Question Id : 9662315413 Question Type : MCQ Option Shuffling : Yes Display Question Number : Yes  
Single Line Question Option : No Option Orientation : Vertical

Correct Marks : 1 Wrong Marks : 0.25

Select the option that is related to the third term on the same basis as the second term is related to the first term.

Distance : Metre :: Weight : ?

Options :

- ✔ Kilogram
- ✘ Pascal
- ✘ SI
- ✘ Joule

Question Number : 5 Question Id : 9662315413 Question Type : MCQ Option Shuffling : Yes Display Question Number : Yes  
Single Line Question Option : No Option Orientation : Vertical

Correct Marks : 1 Wrong Marks : 0.25

उस विकल्प का चयन करें जो तीसरे पद से उसी प्रकार से संबंधित है जिस प्रकार से पहला पद दूसरे पद से संबंधित है।

दूरी : मीटर :: वज़न : ?

Options :

- ✔ किलोग्राम
- ✘ पास्कल
- ✘ एसआई
- ✘ जूल

Question Number : 6 Question Id : 9662315414 Question Type : MCQ Option Shuffling : Yes Display Question Number : Yes  
Single Line Question Option : No Option Orientation : Vertical

Correct Marks : 1 Wrong Marks : 0.25

Out of the given options, three are similar in a certain manner. However, one option is NOT like the other three. Select the option which is different from the rest.

Options :

- ✘ Violet
- ✘ Blue
- ✘ Orange
- ✔ Black

Question Number : 6 Question Id : 9662315414 Question Type : MCQ Option Shuffling : Yes Display Question Number : Yes  
Single Line Question Option : No Option Orientation : Vertical

Correct Marks : 1 Wrong Marks : 0.25

दिए गए विकल्पों में से, तीन एक निश्चित तरीके से समान हैं। हालाँकि, एक विकल्प अन्य तीन की तरह नहीं है। उस विकल्प का चयन करें जो बाकी से अलग है।

Options :

1. ✘ बैंगनी
2. ✘ नीला
3. ✘ नारंगी
4. ✔ काला

Question Number : 7 Question Id : 9662315415 Question Type : MCQ Option Shuffling : Yes Display Question Number : Yes  
Single Line Question Option : No Option Orientation : Vertical

Correct Marks : 1 Wrong Marks : 0.25

Which of the given options can be a part of the group to which the given words belong?

Chicken, Turkey, Duck

Options :

1. ✘ Cat
2. ✘ Dog
3. ✘ Snake
4. ✔ Geese

Question Number : 7 Question Id : 9662315415 Question Type : MCQ Option Shuffling : Yes Display Question Number : Yes  
Single Line Question Option : No Option Orientation : Vertical

Correct Marks : 1 Wrong Marks : 0.25

दिए गए विकल्पों में से कौन सा समूह उस समूह का हिस्सा हो सकता है जिसमें दिए गए शब्द हैं?

मुर्गी, तुर्की, बतख

Options :

1. ✘ बिल्ली
2. ✘ कुत्ता
3. ✘ साँप
4. ✔ कलहंस

Question Number : 8 Question Id : 9662315416 Question Type : MCQ Option Shuffling : Yes Display Question Number : Yes  
Single Line Question Option : No Option Orientation : Vertical

Correct Marks : 1 Wrong Marks : 0.25

Find the pair of words that is analogous to the given pair.

Car : Petrol

Options :

1. ✘ Tea: Coffee
2. ✘ Oil: Butter
3. ✔ Bat: Ball
4. ✘ CD: DVD

Question Number : 8 Question Id : 9662315416 Question Type : MCQ Option Shuffling : Yes Display Question Number : Yes  
Single Line Question Option : No Option Orientation : Vertical

Correct Marks : 1 Wrong Marks : 0.25

उन शब्दों की जोड़ी को ज्ञात करें जो दी गई जोड़ी के अनुरूप है।

कार: पेट्रोल

Options :

- ✘ चाय: कॉफी
- ✘ तेल: मक्खन
- ✔ बल्ला: गेंद
- ✘ सीडी: डीवीडी

Question Number : 9 Question Id : 9662315417 Question Type : MCQ Option Shuffling : Yes Display Question Number : Yes  
Single Line Question Option : No Option Orientation : Vertical

Correct Marks : 1 Wrong Marks : 0.25

Select the set of words that are analogous to the given set of words.

Water : Hydrogen : Oxygen

Options :

- ✔ Calculator : Functions : Buttons
- ✘ Food : Oil : Fruits
- ✘ Phone : Pictures : Songs
- ✘ Language : Grammar : Literature

Question Number : 9 Question Id : 9662315417 Question Type : MCQ Option Shuffling : Yes Display Question Number : Yes  
Single Line Question Option : No Option Orientation : Vertical

Correct Marks : 1 Wrong Marks : 0.25

उन शब्दों के सेट का चयन करें जो शब्दों के दिए गए सेट के अनुरूप हैं।

पानी: हाइड्रोजन: ऑक्सीजन

Options :

- ✔ कैलकुलेटर: कार्य: बटन
- ✘ भोजन: तेल: फल
- ✘ फोन: चित्र: गाने
- ✘ भाषा: व्याकरण: साहित्य

Question Number : 10 Question Id : 9662315418 Question Type : MCQ Option Shuffling : Yes Display Question Number : Yes  
Single Line Question Option : No Option Orientation : Vertical

Correct Marks : 1 Wrong Marks : 0.25

In a certain language, "bat and ball" is written as "tab dna llab", "play with bat" is written as "yalp htiw tab" and "bowl with ball" is written as "lwob htiw llab". How is "and" written?

Options :

- ✘ tab
- ✘ llab
- ✔ dna
- ✘ dan

Question Number : 10 Question Id : 9662315418 Question Type : MCQ Option Shuffling : Yes Display Question Number : Yes  
Single Line Question Option : No Option Orientation : Vertical

Correct Marks : 1 Wrong Marks : 0.25

एक निश्चित भाषा में, "bat and ball" को "tab dna llab" के रूप में लिखा जाता है, "play with bat" को "yalp htiw tab" के रूप में और "bowl with ball" को "lwob htiw llab" के रूप में लिखा जाता है। "and" कैसे लिखा जाता है?

Options :

- ✘ tab
- ✘ llab
- ✔ dna

4. ✘ dan

Question Number : 11 Question Id : 9662315419 Question Type : MCQ Option Shuffling : Yes Display Question Number : Yes  
Single Line Question Option : No Option Orientation : Vertical

Correct Marks : 1 Wrong Marks : 0.25

If in a language, 'table' is coded as 'chair', then how is 'tea' coded?

Options :

1. ✔ sugar
2. ✘ coffee
3. ✘ spoon
4. ✘ knife

Question Number : 11 Question Id : 9662315419 Question Type : MCQ Option Shuffling : Yes Display Question Number : Yes  
Single Line Question Option : No Option Orientation : Vertical

Correct Marks : 1 Wrong Marks : 0.25

यदि किसी भाषा में, 'table' को 'chair' के रूप में कोडित किया जाता है, तो 'tea' को कैसे कोडित किया जाएगा?

Options :

1. ✔ sugar
2. ✘ coffee
3. ✘ spoon
4. ✘ knife

Question Number : 12 Question Id : 9662315420 Question Type : MCQ Option Shuffling : Yes Display Question Number : Yes  
Single Line Question Option : No Option Orientation : Vertical

Correct Marks : 1 Wrong Marks : 0.25

In a code, MOUSE = 73 and RAT = 39. How much is MICE equal to?

Options :

1. ✘ 36
2. ✘ 48
3. ✘ 24
4. ✔ 30

Question Number : 12 Question Id : 9662315420 Question Type : MCQ Option Shuffling : Yes Display Question Number : Yes  
Single Line Question Option : No Option Orientation : Vertical

Correct Marks : 1 Wrong Marks : 0.25

एक कोड में, MOUSE = 73 और RAT = 39 है। इस कोड में MICE का मूल्य क्या है?

Options :

1. ✘ 36
2. ✘ 48
3. ✘ 24
4. ✔ 30

Question Number : 13 Question Id : 9662315421 Question Type : MCQ Option Shuffling : Yes Display Question Number : Yes  
Single Line Question Option : No Option Orientation : Vertical

Correct Marks : 1 Wrong Marks : 0.25

6 people are sitting on a circular table facing inwards. K sits in between N and O. O sits across M. P sits on one side of O and L is on one side of M. Who sits across K?

Options :

1. ✘ M

2. ✘ P
3. ✔ L
4. ✘ O

Question Number : 13 Question Id : 9662315421 Question Type : MCQ Option Shuffling : Yes Display Question Number : Yes  
Single Line Question Option : No Option Orientation : Vertical

Correct Marks : 1 Wrong Marks : 0.25

6 लोग एक गोलाकार टेबल पर अंदर की तरफ मुंह करके बैठे हैं। K, N और O के बीच में बैठा है O, M के पार बैठा है P, O के एक तरफ बैठा है और L, M के एक तरफ होता है K के पार कौन बैठा है?

Options :

1. ✘ M
2. ✘ P
3. ✔ L
4. ✘ O

Question Number : 14 Question Id : 9662315422 Question Type : MCQ Option Shuffling : Yes Display Question Number : Yes  
Single Line Question Option : No Option Orientation : Vertical

Correct Marks : 1 Wrong Marks : 0.25

In a row of 20 boys, when X is shifted 2 places to his left, he is now placed 15th from the left. What was his original position from the right?

Options :

1. ✘ third
2. ✘ fifth
3. ✘ sixth
4. ✔ fourth

Question Number : 14 Question Id : 9662315422 Question Type : MCQ Option Shuffling : Yes Display Question Number : Yes  
Single Line Question Option : No Option Orientation : Vertical

Correct Marks : 1 Wrong Marks : 0.25

20 लड़कों की एक पंक्ति में, जब X को उसके बाईं ओर 2 स्थान स्थानांतरित किया जाता है, तो उसे बाईं ओर से 15 वें स्थान पर रखा जाता है। दाईं ओर से उसकी मूल स्थिति क्या थी?

Options :

1. ✘ तीसरा
2. ✘ पांचवां
3. ✘ छठा
4. ✔ चौथा

Question Number : 15 Question Id : 9662315423 Question Type : MCQ Option Shuffling : Yes Display Question Number : Yes  
Single Line Question Option : No Option Orientation : Vertical

Correct Marks : 1 Wrong Marks : 0.25

Pointing to a woman in the photograph, X said, her father's sister is the only daughter of my mother's father-in-law. How is X's mother related to the woman?

Options :

1. ✘ Herself
2. ✘ Daughter
3. ✘ Aunt
4. ✔ Mother

Question Number : 15 Question Id : 9662315423 Question Type : MCQ Option Shuffling : Yes Display Question Number : Yes  
Single Line Question Option : No Option Orientation : Vertical



Correct Marks : 1 Wrong Marks : 0.25

तस्वीर में एक महिला की ओर इशारा करते हुए, X ने कहा, उसके पिता की बहन मेरी माता के ससुर की एकमात्र बेटी है। X की माता का महिला से क्या रिश्ता है?

Options :

- ✘ स्वयं
- ✘ बेटी
- ✘ चाची/मौसी/मामी/बुआ
- ✔ माता

Question Number : 16 Question Id : 9662315424 Question Type : MCQ Option Shuffling : Yes Display Question Number : Yes  
Single Line Question Option : No Option Orientation : Vertical

Correct Marks : 1 Wrong Marks : 0.25

X उत्तर की ओर 50 m चलता है, फिर दाएं मुड़ता है और 100 m आगे चलता है। वह फिर से दाएं मुड़ता है और 80 m चलता है। वह फिर से दाएं मुड़ता है और 60 m चलता है। उसकी वर्तमान और प्रारंभिक स्थिति के बीच न्यूनतम दूरी क्या है और किस दिशा में है?

Options :

- ✔ 50 m दक्षिण-पूर्व
- ✘ 70 m दक्षिण-पूर्व
- ✘ 50 m उत्तर-पूर्व
- ✘ 70 m उत्तर-पूर्व

Question Number : 16 Question Id : 9662315424 Question Type : MCQ Option Shuffling : Yes Display Question Number : Yes  
Single Line Question Option : No Option Orientation : Vertical

Correct Marks : 1 Wrong Marks : 0.25

X walks 50 m towards North, takes a right and walks ahead 100 m. He again takes a right and walks for 80 m. He again turns right and walks for 60 m. What is the minimum distance between his current and his starting position and in what direction?

Options :

- ✔ 50 m South-East
- ✘ 70 m South-East
- ✘ 50 m North-East
- ✘ 70 m North-East

Question Number : 17 Question Id : 9662315425 Question Type : MCQ Option Shuffling : Yes Display Question Number : Yes  
Single Line Question Option : No Option Orientation : Vertical

Correct Marks : 1 Wrong Marks : 0.25

There are 5 siblings, A, B, C, D and E. A is elder to C who is elder to E. D is younger than A but not younger than C. B is neither the youngest nor the eldest. Who is the youngest sibling?

Options :

- ✘ A
- ✘ C
- ✘ D
- ✔ E

Question Number : 17 Question Id : 9662315425 Question Type : MCQ Option Shuffling : Yes Display Question Number : Yes  
Single Line Question Option : No Option Orientation : Vertical

Correct Marks : 1 Wrong Marks : 0.25

A, B, C, D और E, 5 भाई-बहन हैं। A, C से बड़ा है। C, E से बड़ा है। D, A से छोटा है, लेकिन C से नहीं। B न तो सबसे छोटा है और न ही सबसे बड़ा है। सबसे छोटा सहोदर कौन है?

Options :

- ✘ A

2. ✘ C
3. ✘ D
4. ✔ E

Question Number : 18 Question Id : 9662315426 Question Type : MCQ Option Shuffling : Yes Display Question Number : Yes  
Single Line Question Option : No Option Orientation : Vertical

Correct Marks : 1 Wrong Marks : 0.25

The statements below are followed by two conclusions labelled I and II . Assuming that the information in the statements is true, even if it appears to be at variance with reality, decide which conclusion(s) logically and definitely follow(s) from the information given in the statements.

Statements:

Some books are notebooks.

All pages are notebooks.

Conclusions:

I. Some pages are books.

II. Some notebooks are pages.

Options :

1. ✘ Only conclusion I follows.
2. ✔ Only conclusion II follows.
3. ✘ Both conclusions I and II follow
4. ✘ Neither conclusion I or II follows.

Question Number : 18 Question Id : 9662315426 Question Type : MCQ Option Shuffling : Yes Display Question Number : Yes  
Single Line Question Option : No Option Orientation : Vertical

Correct Marks : 1 Wrong Marks : 0.25

नीचे दिए गए कथनों में I और II के दो निष्कर्ष लेबल किए गए हैं। यह मानते हुए कि कथनों में दी गई जानकारी सत्य है, भले ही वह वास्तविकता से अलग प्रतीत हो, निर्णय लें कि कौन-सा निष्कर्ष तार्किक रूप से दिया गया है और निश्चित रूप से कथनों में दी गई जानकारी का अनुसरण करता है।

कथन:

कुछ पुस्तकें नोटबुक हैं।

सभी पेज नोटबुक हैं।

निष्कर्ष:

I. कुछ पेज पुस्तकें हैं।

II. कुछ नोटबुक पेज हैं।

Options :

1. ✘ केवल निष्कर्ष I अनुसरण करता है।
2. ✔ केवल निष्कर्ष II अनुसरण करता है।
3. ✘ दोनों निष्कर्ष I और II अनुसरण करते हैं।
4. ✘ न तो निष्कर्ष I या II अनुसरण करते हैं।

Question Number : 19 Question Id : 9662315427 Question Type : MCQ Option Shuffling : Yes Display Question Number : Yes  
Single Line Question Option : No Option Orientation : Vertical

Correct Marks : 1 Wrong Marks : 0.25

The statements below are followed by two assumptions labelled I and II . Assuming that the information in the statements is true, even if it appears to be at variance with reality, decide which assumption(s) is/are logically and definitely valid based on the information given in the statements.

Statements:

Some birds are in sanctuaries.

Sanctuaries are a safe place for birds

Assumptions:

I. All other birds are in the wild.

II. Poachers are not allowed in sanctuaries.

Options :

1. ✖ Only assumption I is valid
2. ✔ Only assumption II is valid
3. ✖ Both assumptions are valid
4. ✖ Neither assumption is valid

Question Number : 19 Question Id : 9662315427 Question Type : MCQ Option Shuffling : Yes Display Question Number : Yes  
Single Line Question Option : No Option Orientation : Vertical

Correct Marks : 1 Wrong Marks : 0.25

नीचे दिए गए कथनों में I और II लेबल वाली दो धारणाएं हैं। यह मानते हुए कि कथनों में दी गई जानकारी सत्य है, भले ही वह वास्तविकता से अलग प्रतीत हो, निर्णय लें कि कथनों में दी गई जानकारी के आधार पर कौन सी धारणा/धारणाएँ तार्किक और निश्चित रूप से मान्य है/हैं।

कथन:

कुछ पक्षी अभयारण्यों में हैं।

अभयारण्य पक्षियों के लिए एक सुरक्षित स्थान है।

धारणाएं:

I. अन्य सभी पक्षी जंगल में हैं।

II. अभयारण्यों में शिकारियों को अनुमति नहीं है।

Options :

1. ✖ केवल धारणा I मान्य है
2. ✔ केवल धारणा II ही मान्य है
3. ✖ दोनों धारणाएं मान्य हैं
4. ✖ कोई भी धारणा मान्य नहीं है

Question Number : 20 Question Id : 9662315428 Question Type : MCQ Option Shuffling : Yes Display Question Number : Yes  
Single Line Question Option : No Option Orientation : Vertical

Correct Marks : 1 Wrong Marks : 0.25

Find the next term in the following number series:

50, 800, 6400, 25600, 51200, ?

Options :

1. ✖ 102400
2. ✖ 76800
3. ✖ 38400
4. ✔ 51200

Question Number : 20 Question Id : 9662315428 Question Type : MCQ Option Shuffling : Yes Display Question Number : Yes  
Single Line Question Option : No Option Orientation : Vertical

Correct Marks : 1 Wrong Marks : 0.25

निम्नलिखित संख्या श्रृंखला में अगला पद ज्ञात करें

50, 800, 6400, 25600, 51200, ?

Options :

1. ✘ 102400
2. ✘ 76800
3. ✘ 38400
4. ✔ 51200

#### Mental Ability2

Group Number :	2
Group Id :	96623165
Group Maximum Duration :	0
Group Minimum Duration :	0
Revisit allowed for view? :	No
Revisit allowed for edit? :	No
Break time:	0
Group Marks:	20
Revisit allowed for group Instructions? :	Yes
Maximum Instruction Time:	0
Minimum Instruction Time:	0

#### Mental Ability2

Section Id :	966231180
Section Number :	1
Section type :	Online
Mandatory or Optional:	Mandatory
Number of Questions:	20
Number of Questions to be attempted:	20
Section Marks:	20
Display Number Panel:	Yes
Group All Questions:	No

Sub-Section Number:	1
Sub-Section Id:	966231188
Question Shuffling Allowed :	Yes

Question Number : 21 Question Id : 9662315429 Question Type : MCQ Option Shuffling : Yes Display Question Number : Yes  
Single Line Question Option : No Option Orientation : Vertical

Correct Marks : 1 Wrong Marks : 0.25

Find the pair of numbers that is analogous to the given pair.

25:80

Options :

1. ✔ 15:50
2. ✘ 10:31
3. ✘ 15:55

4. ✖ 10:40

Question Number : 21 Question Id : 9662315429 Question Type : MCQ Option Shuffling : Yes Display Question Number : Yes  
Single Line Question Option : No Option Orientation : Vertical

Correct Marks : 1 Wrong Marks : 0.25

उन संख्याओं की जोड़ी को ज्ञात करें जो दी गई जोड़ी के अनुरूप है

25:80

Options :

1. ✔ 15:50

2. ✖ 10:31

3. ✖ 15:55

4. ✖ 10:40

Question Number : 22 Question Id : 9662315430 Question Type : MCQ Option Shuffling : Yes Display Question Number : Yes  
Single Line Question Option : No Option Orientation : Vertical

Correct Marks : 1 Wrong Marks : 0.25

Which two signs should be interchanged to make the below equation mathematically correct?

$$8 \times 6 \div 12 - 7 + 11 = 0$$

Options :

1. ✖  $\times, +$

2. ✖  $\times, \div$

3. ✖  $+, \div$

4. ✔  $-, +$

Question Number : 22 Question Id : 9662315430 Question Type : MCQ Option Shuffling : Yes Display Question Number : Yes  
Single Line Question Option : No Option Orientation : Vertical

Correct Marks : 1 Wrong Marks : 0.25

नीचे दिए गए समीकरण को गणितीय रूप से सही बनाने के लिए, किन दो चिन्हों को परस्पर स्थानांतरित करना चाहिए?

$$8 \times 6 \div 12 - 7 + 11 = 0$$

Options :

1. ✖  $\times, +$

2. ✖  $\times, \div$

3. ✖  $+, \div$

4. ✔  $-, +$

Question Number : 23 Question Id : 9662315431 Question Type : MCQ Option Shuffling : Yes Display Question Number : Yes  
Single Line Question Option : No Option Orientation : Vertical

Correct Marks : 1 Wrong Marks : 0.25

Find the set of numbers that is analogous to the given set.

(81, 49, 25)

Options :

1. ✔ (64, 36, 16)

2. ✖ (125, 27, 1)

3. ✖ (729, 343, 125)

4. ✖ (100, 49, 25)

Question Number : 23 Question Id : 9662315431 Question Type : MCQ Option Shuffling : Yes Display Question Number : Yes  
Single Line Question Option : No Option Orientation : Vertical

Correct Marks : 1 Wrong Marks : 0.25

दिए गए सेट के अनुरूप संख्याओं का समूह ज्ञात करें।

(81, 49, 25)

Options :

1. ✓ (64, 36, 16)
2. ✗ (125, 27, 1)
3. ✗ (729, 343, 125)
4. ✗ (100, 49, 25)

Question Number : 24 Question Id : 9662315432 Question Type : MCQ Option Shuffling : Yes Display Question Number : Yes  
Single Line Question Option : No Option Orientation : Vertical

Correct Marks : 1 Wrong Marks : 0.25

Find the missing number in the following number series.

15, 90, 450, ?, 5400, 10800.

Options :

1. ✗ 900
2. ✗ 1350
3. ✓ 1800
4. ✗ 2700

Question Number : 24 Question Id : 9662315432 Question Type : MCQ Option Shuffling : Yes Display Question Number : Yes  
Single Line Question Option : No Option Orientation : Vertical

Correct Marks : 1 Wrong Marks : 0.25

निम्नलिखित संख्या श्रृंखला में लुप्त संख्या ज्ञात करें।

15, 90, 450, ?, 5400, 10800।

Options :

1. ✗ 900
2. ✗ 1350
3. ✓ 1800
4. ✗ 2700

Question Number : 25 Question Id : 9662315433 Question Type : MCQ Option Shuffling : Yes Display Question Number : Yes  
Single Line Question Option : No Option Orientation : Vertical

Correct Marks : 1 Wrong Marks : 0.25

Choose the option that can appropriately replace the '?'.

$$13^2 - 12^2 ? 3^2 + 4^2$$

Options :

1. ✗
2. ✓ =
3. ✗ <
4. ✗ >

Question Number : 25 Question Id : 9662315433 Question Type : MCQ Option Shuffling : Yes Display Question Number : Yes  
Single Line Question Option : No Option Orientation : Vertical

Correct Marks : 1 Wrong Marks : 0.25

उस विकल्प का चयन करें जो उचित रूप से '?' की जगह ले सके।

$$13^2 - 12^2 ? 3^2 + 4^2$$

Options :

1. ✘ =
2. ✔ =
3. ✘ <
4. ✘ >

Question Number : 26 Question Id : 9662315434 Question Type : MCQ Option Shuffling : Yes Display Question Number : Yes Single Line Question Option : No Option Orientation : Vertical

Correct Marks : 1 Wrong Marks : 0.25

Out of the given options, three are similar in a certain manner. However, one option is NOT like the other three. Select the option which is different from the rest.

Options :

1. ✘ 41
2. ✔ 51
3. ✘ 61
4. ✘ 71

Question Number : 26 Question Id : 9662315434 Question Type : MCQ Option Shuffling : Yes Display Question Number : Yes Single Line Question Option : No Option Orientation : Vertical

Correct Marks : 1 Wrong Marks : 0.25

दिए गए विकल्पों में से, तीन एक निश्चित तरीके से समान हैं। हालाँकि, एक विकल्प अन्य तीन की तरह नहीं है। उस विकल्प का चयन करें जो बाकी से अलग है।

Options :

1. ✘ 41
2. ✔ 51
3. ✘ 61
4. ✘ 71

Question Number : 27 Question Id : 9662315435 Question Type : MCQ Option Shuffling : Yes Display Question Number : Yes Single Line Question Option : No Option Orientation : Vertical

Correct Marks : 1 Wrong Marks : 0.25

Which two numbers should be interchanged to make the below equation mathematically correct?

$$32 \times 4 \div 20 + 18 - 16 = 6$$

Options :

1. ✔ 20, 16
2. ✘ 4, 16
3. ✘ 4, 32
4. ✘ 16, 32

Question Number : 27 Question Id : 9662315435 Question Type : MCQ Option Shuffling : Yes Display Question Number : Yes Single Line Question Option : No Option Orientation : Vertical

Correct Marks : 1 Wrong Marks : 0.25

नीचे दिए गए समीकरण को गणितीय रूप से सही बनाने के लिए किन दो संख्याओं को परस्पर स्थानांतरित किया जाना चाहिए?

$$32 \times 4 \div 20 + 18 - 16 = 6$$

Options :

1. ✓ 20, 16
2. ✗ 4, 16
3. ✗ 4, 32
4. ✗ 16, 32

Question Number : 28 Question Id : 9662315436 Question Type : MCQ Option Shuffling : Yes Display Question Number : Yes  
Single Line Question Option : No Option Orientation : Vertical

Correct Marks : 1 Wrong Marks : 0.25

Choose the option that relates to the third term in the same way as the second term relates to the first term.

15 : 64 :: 4 : ?

Options :

1. ✗ 16
2. ✗ 11
3. ✓ 20
4. ✗ 23

Question Number : 28 Question Id : 9662315436 Question Type : MCQ Option Shuffling : Yes Display Question Number : Yes  
Single Line Question Option : No Option Orientation : Vertical

Correct Marks : 1 Wrong Marks : 0.25

उस विकल्प का चयन करें जो तीसरे पद से उसी प्रकार से संबंधित है जिस प्रकार से पहला पद दूसरे पद से संबंधित है

15 : 64 :: 4 : ?

Options :

1. ✗ 16
2. ✗ 11
3. ✓ 20
4. ✗ 23

Question Number : 29 Question Id : 9662315437 Question Type : MCQ Option Shuffling : Yes Display Question Number : Yes  
Single Line Question Option : No Option Orientation : Vertical

Correct Marks : 1 Wrong Marks : 0.25

Out of the given number pairs, three are similar in a certain manner. However, one pair is NOT like the other three. Select the option which is different from the rest.

Options :

1. ✗ 1, 11
2. ✗ 11, 121
3. ✓ 121, 1111
4. ✗ 1331, 14641

Question Number : 29 Question Id : 9662315437 Question Type : MCQ Option Shuffling : Yes Display Question Number : Yes  
Single Line Question Option : No Option Orientation : Vertical

Correct Marks : 1 Wrong Marks : 0.25

दिए गए संख्या जोड़ियों में से, तीन एक निश्चित तरीके से समान हैं। हालाँकि, एक जोड़ी अन्य तीन की तरह नहीं है। उस जोड़ी का चयन करें जो बाकियों से अलग है।

Options :

1. ✗ 1, 11
2. ✗ 11, 121
3. ✓ 121, 1111

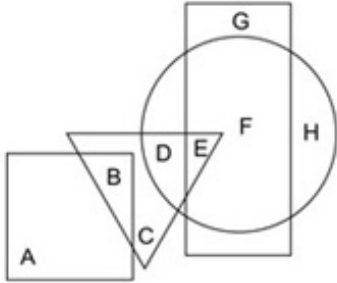


4. ✖ 1331, 14641

Question Number : 30 Question Id : 9662315438 Question Type : MCQ Option Shuffling : Yes Display Question Number : Yes Single Line Question Option : No Option Orientation : Vertical

Correct Marks : 1 Wrong Marks : 0.25

In the following figure, the rectangle represents mechanics, the triangle represents income tax officers, the circle represents social workers and the square represents fathers. Which set of letters represents income tax officers who are NOT social workers?



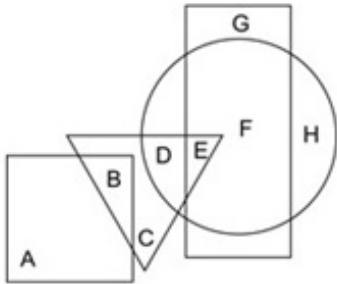
Options :

1. ✖ DE
2. ✔ BC
3. ✖ DH
4. ✖ G

Question Number : 30 Question Id : 9662315438 Question Type : MCQ Option Shuffling : Yes Display Question Number : Yes Single Line Question Option : No Option Orientation : Vertical

Correct Marks : 1 Wrong Marks : 0.25

निम्नलिखित आकृति में, आयत मिस्त्रियों को दर्शाता है, त्रिकोण आयकर अधिकारियों को दर्शाता है, वृत्त सामाजिक कार्यकर्ताओं को दर्शाता है और वर्ग पिताओं को दर्शाता है। अक्षरों का कौन सा सेट आयकर अधिकारियों को दर्शाता है जो सामाजिक कार्यकर्ता नहीं हैं?



Options :

1. ✖ DE
2. ✔ BC
3. ✖ DH
4. ✖ G

Question Number : 31 Question Id : 9662315439 Question Type : MCQ Option Shuffling : Yes Display Question Number : Yes Single Line Question Option : No Option Orientation : Vertical

Correct Marks : 1 Wrong Marks : 0.25

Which of the following Venn diagrams best represents the relationship between mothers, fathers and women?

Options :



1. ✘



2. ✘



3. ✘



4. ✔

Question Number : 31 Question Id : 9662315439 Question Type : MCQ Option Shuffling : Yes Display Question Number : Yes  
Single Line Question Option : No Option Orientation : Vertical

Correct Marks : 1 Wrong Marks : 0.25

निम्न में से कौन सा वेन आरेख माताओं, पिताओं और महिलाओं के बीच के संबंध को सबसे अच्छा दर्शाता है?

Options :



1. ✘



2. ✘



3. ✘



4. ✓

**Question Number : 32 Question Id : 9662315440 Question Type : MCQ Option Shuffling : Yes Display Question Number : Yes**  
**Single Line Question Option : No Option Orientation : Vertical**

**Correct Marks : 1 Wrong Marks : 0.25**

A race starts off on a circular track with radius 7 kms. A man takes 1 hour to complete 1 lap of the ground and 20 minutes to travel across the ground. How much time will he take to cover 80 kms which involve atleast 1 full lap?

**Options :**

1. ✗ 90 mins
2. ✗ 180 mins
3. ✗ 150 mins
4. ✓ 110 mins

**Question Number : 32 Question Id : 9662315440 Question Type : MCQ Option Shuffling : Yes Display Question Number : Yes**  
**Single Line Question Option : No Option Orientation : Vertical**

**Correct Marks : 1 Wrong Marks : 0.25**

एक दौड़ 7 km त्रिज्या के एक गोलाकार ट्रैक पर शुरू होती है। एक आदमी को जमीन का 1 लैप को पूरा करने में 1 घंटा लगता है और मैदान पार करने में 20 मिनट लगते हैं। 80 km की दूरी तय करने में उसे कितना समय लगेगा, जिसमें कम से कम 1 पूरा लैप शामिल हो?

**Options :**

1. ✗ 90 मिनट
2. ✗ 180 मिनट
3. ✗ 150 मिनट
4. ✓ 110 मिनट

**Question Number : 33 Question Id : 9662315441 Question Type : MCQ Option Shuffling : Yes Display Question Number : Yes**  
**Single Line Question Option : No Option Orientation : Vertical**

**Correct Marks : 1 Wrong Marks : 0.25**

A woman starts from her hut and walks in search of water. She starts by walking East for 8 kms and then goes South for 6 kms. There she finds a well and now wants to go back to her hut. In which direction should she travel to reach her hut?

**Options :**

1. ✓ North-West
2. ✗ East
3. ✗ North-East
4. ✗ South-West

**Question Number : 33 Question Id : 9662315441 Question Type : MCQ Option Shuffling : Yes Display Question Number : Yes**  
**Single Line Question Option : No Option Orientation : Vertical**

**Correct Marks : 1 Wrong Marks : 0.25**

एक महिला अपनी झोपड़ी से पानी की तलाश में चलती है। वह शुरुआत में 8 km पूर्व की ओर चलती है और फिर 6 km दक्षिण की ओर जाती है। वहाँ उसे एक कुआं मिलता है और अब अपनी कुटिया में वापस जाना चाहती है। उसे अपनी झोपड़ी तक पहुंचने के लिए किस दिशा में यात्रा करनी चाहिए?

**Options :**

1. ✓ उत्तर-पश्चिम
2. ✗ पूर्व
3. ✗ उत्तर-पूर्व

4. ✖ दक्षिण-पश्चिम

Question Number : 34 Question Id : 9662315442 Question Type : MCQ Option Shuffling : Yes Display Question Number : Yes  
Single Line Question Option : No Option Orientation : Vertical

Correct Marks : 1 Wrong Marks : 0.25

Out of the four options three are similar in a certain way and one is different. Find the option which is different.

Options :

F	D	U
Q	E	H
X	I	O

1. ✖

X	U	E
I	F	Q
H	D	O

2. ✖

F	Q	X
H	D	I
E	U	Q

3. ✔

H	O	D
X	I	Q
F	U	E

4. ✖

Question Number : 34 Question Id : 9662315442 Question Type : MCQ Option Shuffling : Yes Display Question Number : Yes  
Single Line Question Option : No Option Orientation : Vertical

Correct Marks : 1 Wrong Marks : 0.25

चार विकल्पों में से तीन एक निश्चित तरीके से समान हैं और एक अलग है। वह विकल्प ढूँढें जो अलग है।

Options :

F	D	U
Q	E	H
X	I	O

1. ✖

X	U	E
I	F	Q
H	D	O

2. ✖

F	Q	X
H	D	I
E	U	Q

3. ✓

H	O	D
X	I	Q
F	U	E

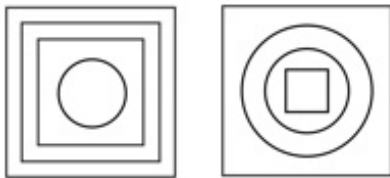
4. ✗

Question Number : 35 Question Id : 9662315443 Question Type : MCQ Option Shuffling : Yes Display Question Number : Yes  
Single Line Question Option : No Option Orientation : Vertical

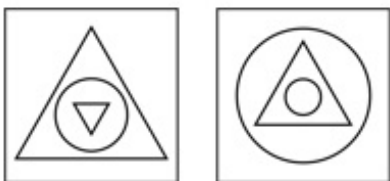
Correct Marks : 1 Wrong Marks : 0.25

Four pairs of figures are given. Three pairs are similar in a certain way and one is different. Find the pair of figures which is different.

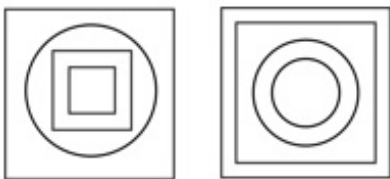
Options :



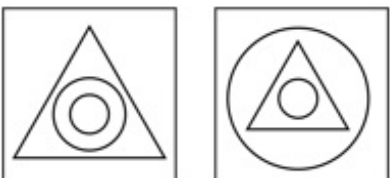
1. ✗



2. ✗



3. ✗



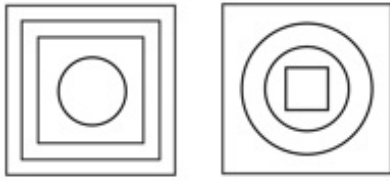
4. ✓

Question Number : 35 Question Id : 9662315443 Question Type : MCQ Option Shuffling : Yes Display Question Number : Yes  
Single Line Question Option : No Option Orientation : Vertical


Correct Marks : 1 Wrong Marks : 0.25

चार आकृतियों की जोड़ियां दी गयी हैं। तीन जोड़ियां एक निश्चित तरीके से समान हैं और एक अलग है। उस जोड़ी को ज्ञात करें जो अलग है।

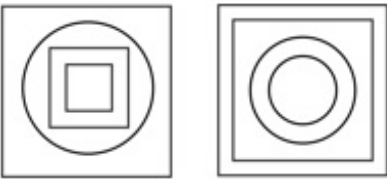
Options :



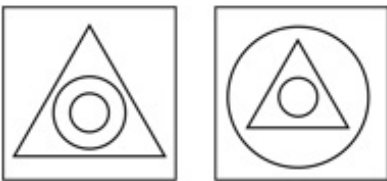
1. ✘



2. ✘



3. ✘

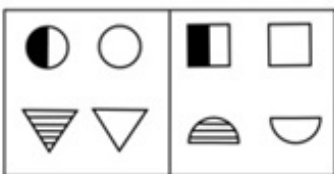


4. ✔

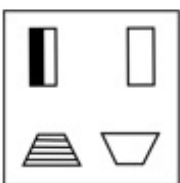
Question Number : 36 Question Id : 9662315444 Question Type : MCQ Option Shuffling : Yes Display Question Number : Yes  
Single Line Question Option : No Option Orientation : Vertical

Correct Marks : 1 Wrong Marks : 0.25

The two figures given in the question are similar in a certain way. Only one figure from the options is similar to the two figures given in the question in the same way. Find that figure.



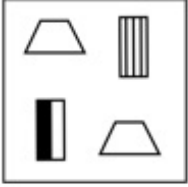
Options :



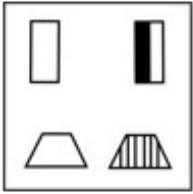
1. ✔



2. ✘



3. ✘

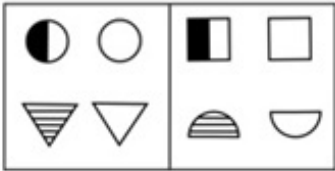


4. ✘

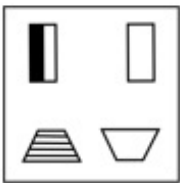
Question Number : 36 Question Id : 9662315444 Question Type : MCQ Option Shuffling : Yes Display Question Number : Yes Single Line Question Option : No Option Orientation : Vertical

Correct Marks : 1 Wrong Marks : 0.25

प्रश्न में दी गई दो आकृतियां एक निश्चित तरीके से समान हैं विकल्पों में से केवल एक आकृति, उसी तरह से प्रश्न में दी गई दो आकृतियों के समान है उस आकृति को ज्ञात करें।



Options :

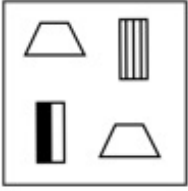


1. ✔



2. ✘

3. ✘



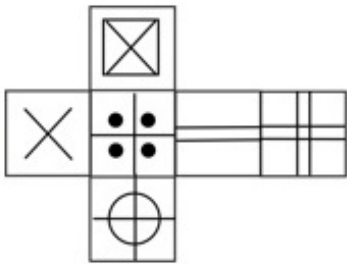
4. ✘



Question Number : 37 Question Id : 9662315445 Question Type : MCQ Option Shuffling : Yes Display Question Number : Yes  
 Single Line Question Option : No Option Orientation : Vertical

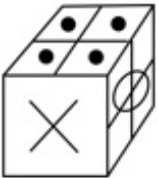
Correct Marks : 1 Wrong Marks : 0.25

Which of the following cubes in the answer figure CANNOT be made based on the unfolded cube in the question figure?



Options :

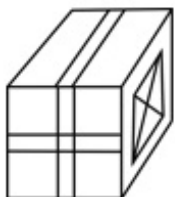
1. ✘



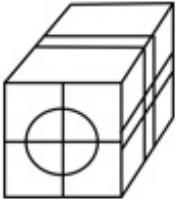
2. ✔



3. ✘





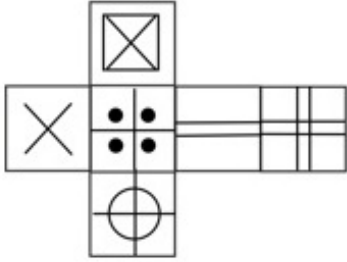


4. ✘

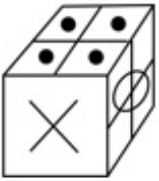
Question Number : 37 Question Id : 9662315445 Question Type : MCQ Option Shuffling : Yes Display Question Number : Yes  
Single Line Question Option : No Option Orientation : Vertical

Correct Marks : 1 Wrong Marks : 0.25

उत्तर आकृति में किस घन को प्रश्न आकृति में प्रकट घन के आधार पर नहीं बनाया जा सकता है?



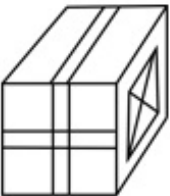
Options :



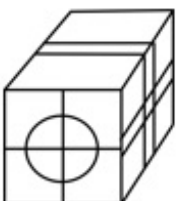
1. ✘



2. ✔



3. ✘

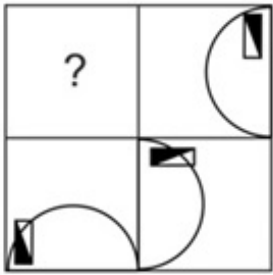


4. ✘

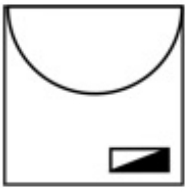
Question Number : 38 Question Id : 9662315446 Question Type : MCQ Option Shuffling : Yes Display Question Number : Yes  
Single Line Question Option : No Option Orientation : Vertical

Correct Marks : 1 Wrong Marks : 0.25

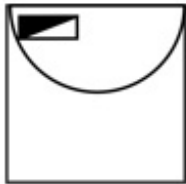
Which of the following answer figures completes the pattern shown in the question figure?



Options :



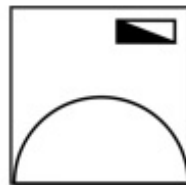
1. ✓



2. ✗



3. ✗

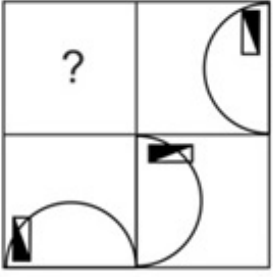


4. ✗

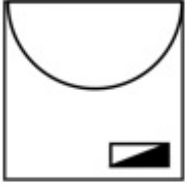
Question Number : 38 Question Id : 9662315446 Question Type : MCQ Option Shuffling : Yes Display Question Number : Yes  
Single Line Question Option : No Option Orientation : Vertical

Correct Marks : 1 Wrong Marks : 0.25

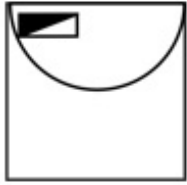
निम्नलिखित में से कौन सी उत्तर आकृति, प्रश्न आकृति में दर्शाए गए पैटर्न को पूरा करती है?



Options :



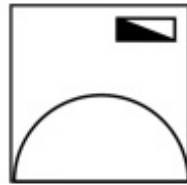
1. ✓



2. ✗



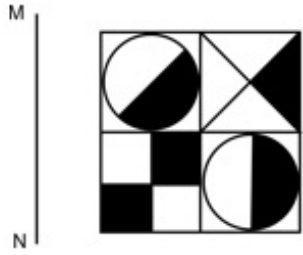
3. ✗



4. ✗

Question Number : 39 Question Id : 9662315447 Question Type : MCQ Option Shuffling : Yes Display Question Number : Yes  
Single Line Question Option : No Option Orientation : Vertical  
Correct Marks : 1 Wrong Marks : 0.25

If a mirror is placed on the line MN, then which of the answer figures will be the right mirror image of the given figure?



Options :



1. ✘



2. ✘



3. ✘

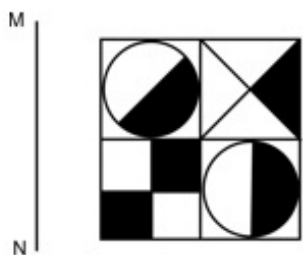


4. ✔

Question Number : 39 Question Id : 9662315447 Question Type : MCQ Option Shuffling : Yes Display Question Number : Yes  
Single Line Question Option : No Option Orientation : Vertical

Correct Marks : 1 Wrong Marks : 0.25

यदि एक दर्पण को रेखा MN पर रखा गया है, तो कौन सी उत्तर आकृति दी गई आकृति का सही दर्पण प्रतिबिंब होगा?



Options :



1. ✘



2. ✘



3. ✘

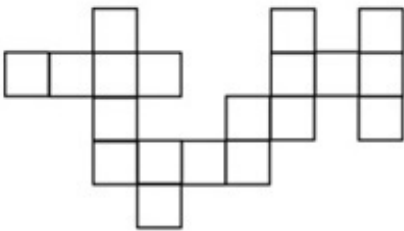


4. ✔




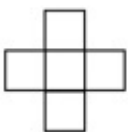
Question Number : 40 Question Id : 9662315448 Question Type : MCQ Option Shuffling : Yes Display Question Number : Yes Single Line Question Option : No Option Orientation : Vertical

Correct Marks : 1 Wrong Marks : 0.25

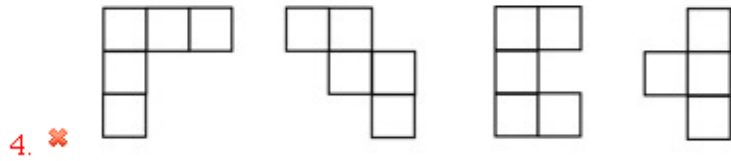
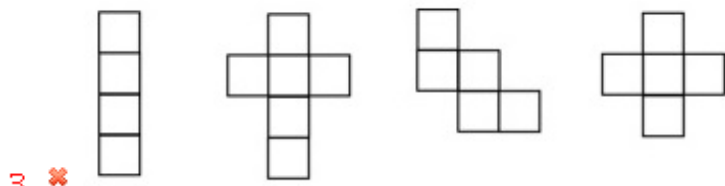
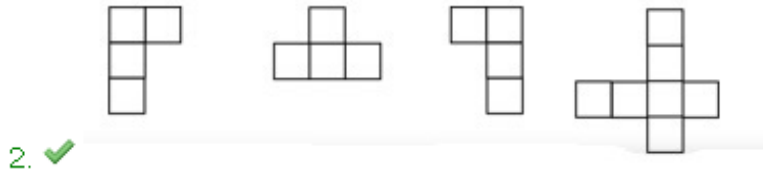
Parts given in which option can be joined to create the pattern given in the question figure?



Options :



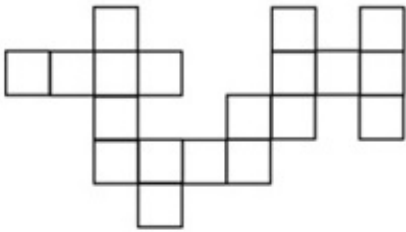
1. ✘



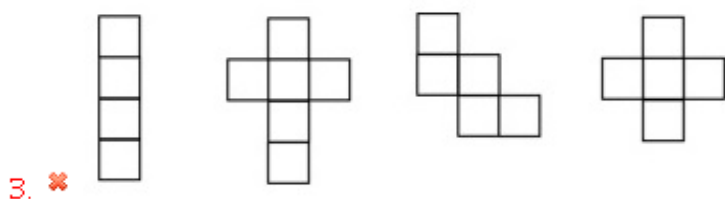
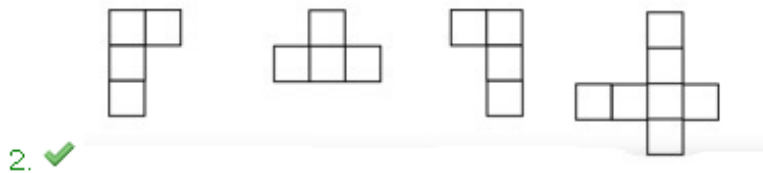
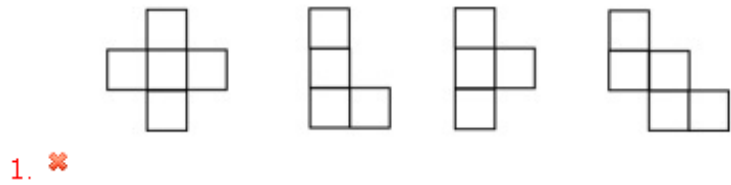
Question Number : 40 Question Id : 9662315448 Question Type : MCQ Option Shuffling : Yes Display Question Number : Yes  
Single Line Question Option : No Option Orientation : Vertical

Correct Marks : 1 Wrong Marks : 0.25

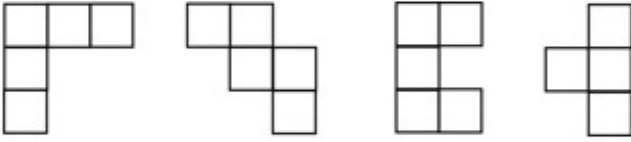
प्रश्न आकृति में दिए गए पैटर्न को बनाने के लिए कौन से विकल्प की आकृतियां जोड़ी जा सकती हैं?



Options :



4. ✘



#### General Awareness1

Group Number :	3
Group Id :	96623166
Group Maximum Duration :	0
Group Minimum Duration :	0
Revisit allowed for view? :	No
Revisit allowed for edit? :	No
Break time:	0
Group Marks:	20
Revisit allowed for group Instructions? :	Yes
Maximum Instruction Time:	0
Minimum Instruction Time:	0

#### General Awareness1

Section Id :	966231181
Section Number :	1
Section type :	Online
Mandatory or Optional:	Mandatory
Number of Questions:	20
Number of Questions to be attempted:	20
Section Marks:	20
Display Number Panel:	Yes
Group All Questions:	No

Sub-Section Number:	1
Sub-Section Id:	966231189
Question Shuffling Allowed :	Yes

Question Number : 41 Question Id : 9662315449 Question Type : MCQ Option Shuffling : Yes Display Question Number : Yes  
Single Line Question Option : No Option Orientation : Vertical

Correct Marks : 1 Wrong Marks : 0.25

While performing Dalkhai in Odisha, men address women as their \_\_\_\_\_ throughout the performance.

Options :

- ✘ niece
- ✘ mother
- ✘ sister
- ✔ girlfriend

Question Number : 41 Question Id : 9662315449 Question Type : MCQ Option Shuffling : Yes Display Question Number : Yes  
Single Line Question Option : No Option Orientation : Vertical

Correct Marks : 1 Wrong Marks : 0.25

ओडिशा में डलखाई का प्रदर्शन करते समय, पुरुष पूरे प्रदर्शन के दौरान महिलाओं को उनके \_\_\_\_\_ के रूप में संबोधित करते हैं।

Options :

1. ✘ भांजी
2. ✘ माता
3. ✘ बहन
4. ✔ प्रेमिका

Question Number : 42 Question Id : 9662315450 Question Type : MCQ Option Shuffling : Yes Display Question Number : Yes  
Single Line Question Option : No Option Orientation : Vertical

Correct Marks : 1 Wrong Marks : 0.25

Pandit Shivkumar Sharma is a very famous classical musician who has acquired international fame by playing the classical instrument, \_\_\_\_\_.

Options :

1. ✘ Sitar
2. ✔ Santoor
3. ✘ Flute
4. ✘ Tabla

Question Number : 42 Question Id : 9662315450 Question Type : MCQ Option Shuffling : Yes Display Question Number : Yes  
Single Line Question Option : No Option Orientation : Vertical

Correct Marks : 1 Wrong Marks : 0.25

पंडित शिवकुमार शर्मा एक बहुत प्रसिद्ध शास्त्रीय संगीतकार हैं जिन्होंने शास्त्रीय वाद्य यंत्र \_\_\_\_\_ को बजाकर अंतर्राष्ट्रीय ख्याति प्राप्त की है।

Options :

1. ✘ सितार
2. ✔ संतूर
3. ✘ बांसुरी
4. ✘ तबला

Question Number : 43 Question Id : 9662315451 Question Type : MCQ Option Shuffling : Yes Display Question Number : Yes  
Single Line Question Option : No Option Orientation : Vertical

Correct Marks : 1 Wrong Marks : 0.25

The Khajuraho group of monuments was built by rulers of the \_\_\_\_\_.

Options :

1. ✘ Gupta Dynasty
2. ✔ Chandela Dynasty
3. ✘ Maurya Dynasty
4. ✘ Chola Dynasty

Question Number : 43 Question Id : 9662315451 Question Type : MCQ Option Shuffling : Yes Display Question Number : Yes  
Single Line Question Option : No Option Orientation : Vertical

Correct Marks : 1 Wrong Marks : 0.25

खजुराहो स्मारक समूह का निर्माण \_\_\_\_\_ शासकों द्वारा किया गया था।

Options :

1. ✘ गुप्त राजवंश
2. ✔ चंदेला राजवंश
3. ✘ मौर्य राजवंश
4. ✘ चोल राजवंश



Question Number : 44 Question Id : 9662315452 Question Type : MCQ Option Shuffling : Yes Display Question Number : Yes  
Single Line Question Option : No Option Orientation : Vertical

Correct Marks : 1 Wrong Marks : 0.25

Saga Dawa is celebrated in \_\_\_\_\_.

Options :

1. ✘ Gujarat
2. ✔ Sikkim
3. ✘ Nagaland
4. ✘ Manipur

Question Number : 44 Question Id : 9662315452 Question Type : MCQ Option Shuffling : Yes Display Question Number : Yes  
Single Line Question Option : No Option Orientation : Vertical

Correct Marks : 1 Wrong Marks : 0.25

सागा दावा \_\_\_\_\_ में मनाया जाता है।

Options :

1. ✘ गुजरात
2. ✔ सिक्किम
3. ✘ नगालैंड
4. ✘ मणिपुर

Question Number : 45 Question Id : 9662315453 Question Type : MCQ Option Shuffling : Yes Display Question Number : Yes  
Single Line Question Option : No Option Orientation : Vertical

Correct Marks : 1 Wrong Marks : 0.25

National Income at Factor Cost = Net National Product at Market Price - \_\_\_\_\_

Options :

1. ✘ (Indirect Taxes - Subsidies)
2. ✔ (Indirect taxes + Subsidies)
3. ✘ (Subsidies - Indirect taxes)
4. ✘ Subsidies

Question Number : 45 Question Id : 9662315453 Question Type : MCQ Option Shuffling : Yes Display Question Number : Yes  
Single Line Question Option : No Option Orientation : Vertical

Correct Marks : 1 Wrong Marks : 0.25

कारक मूल्य पर राष्ट्रीय आय = बाजार मूल्य पर निवल राष्ट्रीय उत्पाद - \_\_\_\_\_

Options :

1. ✘ (अप्रत्यक्ष कर - राजसहायता)
2. ✔ (अप्रत्यक्ष कर + राजसहायता)
3. ✘ (राजसहायता - अप्रत्यक्ष कर)
4. ✘ राजसहायता

Question Number : 46 Question Id : 9662315454 Question Type : MCQ Option Shuffling : Yes Display Question Number : Yes  
Single Line Question Option : No Option Orientation : Vertical

Correct Marks : 1 Wrong Marks : 0.25

Which among the following banks was inaugurated by Mahatma Gandhi in 1919?

Options :

1. ✘ Punjab National Bank
2. ✔ Union Bank of India
3. ✘ Central Bank of India
4. ✘ Bank of India

Question Number : 46 Question Id : 9662315454 Question Type : MCQ Option Shuffling : Yes Display Question Number : Yes  
Single Line Question Option : No Option Orientation : Vertical

Correct Marks : 1 Wrong Marks : 0.25

1919 में महात्मा गांधी द्वारा निम्नलिखित में से किस बैंक का उद्घाटन किया गया था?

Options :

- ✘ पंजाब नेशनल बैंक
- ✔ यूनियन बैंक ऑफ इंडिया
- ✘ सेंट्रल बैंक ऑफ इंडिया
- ✘ बैंक ऑफ इंडिया

Question Number : 47 Question Id : 9662315455 Question Type : MCQ Option Shuffling : Yes Display Question Number : Yes  
Single Line Question Option : No Option Orientation : Vertical

Correct Marks : 1 Wrong Marks : 0.25

As announced in the Budget of 2019, \_\_\_\_\_ were allocated for the Mahatma Gandhi National Rural Employment Guarantee Act.

Options :

- ✘ Rs 80,000 crore
- ✔ Rs 60,000 crore
- ✘ Rs 50,000 crore
- ✘ Rs 55,000 crore

Question Number : 47 Question Id : 9662315455 Question Type : MCQ Option Shuffling : Yes Display Question Number : Yes  
Single Line Question Option : No Option Orientation : Vertical

Correct Marks : 1 Wrong Marks : 0.25

जैसा कि 2019 के बजट में घोषित किया गया था, \_\_\_\_\_ को महात्मा गांधी राष्ट्रीय ग्रामीण रोजगार गारंटी अधिनियम के लिए आवंटित किया गया था।

Options :

- ✘ 80,000 करोड़ रुपए
- ✔ 60,000 करोड़ रुपए
- ✘ 50,000 करोड़ रुपए
- ✘ 55,000 करोड़ रुपए

Question Number : 48 Question Id : 9662315456 Question Type : MCQ Option Shuffling : Yes Display Question Number : Yes  
Single Line Question Option : No Option Orientation : Vertical

Correct Marks : 1 Wrong Marks : 0.25

किस नियम में कहा गया है कि दो बिंदुओं के बीच एक चालक के माध्यम से गुजरने वाला करंट सीधे दो बिंदुओं के संभावित अंतर का आनुपातिक है बशर्ते कंडक्टर की भौतिक स्थिति और तापमान आदि में बदलाव न हो?

Options :

- ✘ पास्कल का नियम
- ✘ अवोगाद्रो का नियम
- ✔ ओम का नियम
- ✘ हुक का नियम

Question Number : 48 Question Id : 9662315456 Question Type : MCQ Option Shuffling : Yes Display Question Number : Yes  
Single Line Question Option : No Option Orientation : Vertical

Correct Marks : 1 Wrong Marks : 0.25

Which law states that the current passing through a conductor between two points is directly proportional to the potential difference across the two points provided the physical state and temperature etc. of the conductor does not change?

Options :

1. ✘ Pascal's Law
2. ✘ Avogadro's Law
3. ✔ Ohm's Law
4. ✘ Hooke's Law

Question Number : 49 Question Id : 9662315457 Question Type : MCQ Option Shuffling : Yes Display Question Number : Yes  
Single Line Question Option : No Option Orientation : Vertical

Correct Marks : 1 Wrong Marks : 0.25

Which among the following is used as a household cleaner when dissolved in water?

Options :

1. ✔ Ammonia
2. ✘ Ascorbic acid
3. ✘ Sodium Carbonate
4. ✘ Propane

Question Number : 49 Question Id : 9662315457 Question Type : MCQ Option Shuffling : Yes Display Question Number : Yes  
Single Line Question Option : No Option Orientation : Vertical

Correct Marks : 1 Wrong Marks : 0.25

पानी में घुलने पर निम्नलिखित में से किसका उपयोग घरेलू स्वच्छक के रूप में किया जाता है?

Options :

1. ✔ अमोनिया
2. ✘ एस्कोबिक अम्ल
3. ✘ सोडियम कार्बोनेट
4. ✘ प्रोपेन

Question Number : 50 Question Id : 9662315458 Question Type : MCQ Option Shuffling : Yes Display Question Number : Yes  
Single Line Question Option : No Option Orientation : Vertical

Correct Marks : 1 Wrong Marks : 0.25

The Nirmal Bharat Abhiyan was also known as \_\_\_\_\_.

Options :

1. ✘ Cleanliness Campaign
2. ✘ Total Hygiene Campaign
3. ✔ Total Sanitation Campaign
4. ✘ Sanitation and Hygiene Campaign

Question Number : 50 Question Id : 9662315458 Question Type : MCQ Option Shuffling : Yes Display Question Number : Yes  
Single Line Question Option : No Option Orientation : Vertical

Correct Marks : 1 Wrong Marks : 0.25

निर्मल भारत अभियान को \_\_\_\_\_ के नाम से भी जाना जाता था।

Options :

1. ✘ स्वच्छता अभियान
2. ✘ कुल स्वास्थ्यविज्ञान अभियान
3. ✔ कुल स्वच्छता अभियान
4. ✘ स्वच्छता और स्वास्थ्यविज्ञान अभियान

Question Number : 51 Question Id : 9662315459 Question Type : MCQ Option Shuffling : Yes Display Question Number : Yes  
Single Line Question Option : No Option Orientation : Vertical

Correct Marks : 1 Wrong Marks : 0.25

The Centre for Environment Education, \_\_\_\_\_ was initiated in 1989.

Options :

1. ✓ Ahmedabad
2. ✗ Kanpur
3. ✗ Punjab
4. ✗ Mumbai

Question Number : 51 Question Id : 9662315459 Question Type : MCQ Option Shuffling : Yes Display Question Number : Yes  
Single Line Question Option : No Option Orientation : Vertical

Correct Marks : 1 Wrong Marks : 0.25

पर्यावरण शिक्षा केंद्र, \_\_\_\_\_ 1989 में शुरू किया गया था।

Options :

1. ✓ अहमदाबाद
2. ✗ कानपुर
3. ✗ पंजाब
4. ✗ मुंबई

Question Number : 52 Question Id : 9662315460 Question Type : MCQ Option Shuffling : Yes Display Question Number : Yes  
Single Line Question Option : No Option Orientation : Vertical

Correct Marks : 1 Wrong Marks : 0.25

Members of porifera phylum are commonly known as \_\_\_\_\_.

Options :

1. ✗ cnidaria
2. ✗ comb jellies
3. ✗ flatworms
4. ✓ sponges

Question Number : 52 Question Id : 9662315460 Question Type : MCQ Option Shuffling : Yes Display Question Number : Yes  
Single Line Question Option : No Option Orientation : Vertical

Correct Marks : 1 Wrong Marks : 0.25

पोरिफेरा फाइलम के सदस्यों को आमतौर पर \_\_\_\_\_ के नाम से जाना जाता है।

Options :

1. ✗ निडारिया
2. ✗ कोम जेली
3. ✗ चपटे कृमि
4. ✓ स्पंज

Question Number : 53 Question Id : 9662315461 Question Type : MCQ Option Shuffling : Yes Display Question Number : Yes  
Single Line Question Option : No Option Orientation : Vertical

Correct Marks : 1 Wrong Marks : 0.25

Chara is a commonly found \_\_\_\_\_ algae.

Options :

1. ✗ blue
2. ✓ green
3. ✗ brown
4. ✗ red

Question Number : 53 Question Id : 9662315461 Question Type : MCQ Option Shuffling : Yes Display Question Number : Yes  
Single Line Question Option : No Option Orientation : Vertical

Correct Marks : 1 Wrong Marks : 0.25

चारा एक आमतौर पर पाया जाने वाला \_\_\_\_\_ शैवाल है।

Options :

1. ✘ नीला
2. ✔ हरा
3. ✘ भूरा
4. ✘ लाल

Question Number : 54 Question Id : 9662315462 Question Type : MCQ Option Shuffling : Yes Display Question Number : Yes  
Single Line Question Option : No Option Orientation : Vertical

Correct Marks : 1 Wrong Marks : 0.25

Which among the following chemicals is used to treat water for home consumption?

Options :

1. ✘ Hydrogen
2. ✘ Sodium
3. ✔ Chlorine
4. ✘ Methane

Question Number : 54 Question Id : 9662315462 Question Type : MCQ Option Shuffling : Yes Display Question Number : Yes  
Single Line Question Option : No Option Orientation : Vertical

Correct Marks : 1 Wrong Marks : 0.25

निम्नलिखित रसायनों में से किसका उपयोग घर में उपयोग होने वाले पानी के उपचार के लिए किया जाता है?

Options :

1. ✘ हाइड्रोजन
2. ✘ सोडियम
3. ✔ क्लोरीन
4. ✘ मिथेन

Question Number : 55 Question Id : 9662315463 Question Type : MCQ Option Shuffling : Yes Display Question Number : Yes  
Single Line Question Option : No Option Orientation : Vertical

Correct Marks : 1 Wrong Marks : 0.25

Osteoporosis is caused due to deficiency of \_\_\_\_\_.

Options :

1. ✘ Iron
2. ✔ Calcium
3. ✘ Iodine
4. ✘ Protein

Question Number : 55 Question Id : 9662315463 Question Type : MCQ Option Shuffling : Yes Display Question Number : Yes  
Single Line Question Option : No Option Orientation : Vertical

Correct Marks : 1 Wrong Marks : 0.25

अस्थिसुषिरता \_\_\_\_\_ की कमी के कारण होता है।

Options :

1. ✘ आयरन
2. ✔ कैल्शियम
3. ✘ आयोडीन
4. ✘ प्रोटीन

Question Number : 56 Question Id : 9662315464 Question Type : MCQ Option Shuffling : Yes Display Question Number : Yes  
Single Line Question Option : No Option Orientation : Vertical

Correct Marks : 1 Wrong Marks : 0.25

The lake founded by the Koyna dam is called .....

Options :

1. ✘ Krishna Lake
2. ✘ Godavari Lake
3. ✘ Ramakrishna Lake
4. ✔ Shivaji Lake

Question Number : 56 Question Id : 9662315464 Question Type : MCQ Option Shuffling : Yes Display Question Number : Yes  
Single Line Question Option : No Option Orientation : Vertical

Correct Marks : 1 Wrong Marks : 0.25

कोयना बांध द्वारा स्थापित झील को ..... कहा जाता है।

Options :

1. ✘ कृष्णा झील
2. ✘ गोदावरी झील
3. ✘ रामकृष्ण झील
4. ✔ शिवाजी झील

Question Number : 57 Question Id : 9662315465 Question Type : MCQ Option Shuffling : Yes Display Question Number : Yes  
Single Line Question Option : No Option Orientation : Vertical

Correct Marks : 1 Wrong Marks : 0.25

Which among the following is not a tributary of Narmada?

Options :

1. ✔ Amaravati
2. ✘ Tawa
3. ✘ Banger
4. ✘ Konar

Question Number : 57 Question Id : 9662315465 Question Type : MCQ Option Shuffling : Yes Display Question Number : Yes  
Single Line Question Option : No Option Orientation : Vertical

Correct Marks : 1 Wrong Marks : 0.25

निम्नलिखित में से कौनसी नर्मदा की सहायक नदी नहीं है?

Options :

1. ✔ अमरावती
2. ✘ तवा
3. ✘ बैंगर
4. ✘ कोनार

Question Number : 58 Question Id : 9662315466 Question Type : MCQ Option Shuffling : Yes Display Question Number : Yes  
Single Line Question Option : No Option Orientation : Vertical

Correct Marks : 1 Wrong Marks : 0.25

..... is formed by the weathering of rocks in dry conditions.

Options :

1. ✘ Saline Soil
2. ✘ Alluvial Soil
3. ✔ Arid Soil
4. ✘ Black Soil

Question Number : 58 Question Id : 9662315466 Question Type : MCQ Option Shuffling : Yes Display Question Number : Yes  
Single Line Question Option : No Option Orientation : Vertical

Correct Marks : 1 Wrong Marks : 0.25

----- शुष्क स्थिति में चट्टानों के अपक्षय द्वारा निर्मित होती है

Options :

1. ✘ नमकीन मृदा
2. ✘ कछार मृदा
3. ✔ शुष्क मृदा
4. ✘ काली मृदा

Question Number : 59 Question Id : 9662315467 Question Type : MCQ Option Shuffling : Yes Display Question Number : Yes  
Single Line Question Option : No Option Orientation : Vertical

Correct Marks : 1 Wrong Marks : 0.25

With which of the following Indian states does Bhutan not share its borders?

Options :

1. ✘ Sikkim
2. ✘ Assam
3. ✘ West Bengal
4. ✔ Manipur

Question Number : 59 Question Id : 9662315467 Question Type : MCQ Option Shuffling : Yes Display Question Number : Yes  
Single Line Question Option : No Option Orientation : Vertical

Correct Marks : 1 Wrong Marks : 0.25

निम्नलिखित में से किस भारतीय राज्य के साथ भूटान अपनी सीमाओं को साझा नहीं करता है?

Options :

1. ✘ सिक्किम
2. ✘ असम
3. ✘ पश्चिम बंगाल
4. ✔ मणिपुर

Question Number : 60 Question Id : 9662315468 Question Type : MCQ Option Shuffling : Yes Display Question Number : Yes  
Single Line Question Option : No Option Orientation : Vertical

Correct Marks : 1 Wrong Marks : 0.25

----- made it possible to grow more crops on roughly the same amount of land with a similar amount of effort?

Options :

1. ✔ Green Revolution
2. ✘ Red Revolution
3. ✘ White Revolution
4. ✘ Blue Revolution

Question Number : 60 Question Id : 9662315468 Question Type : MCQ Option Shuffling : Yes Display Question Number : Yes  
Single Line Question Option : No Option Orientation : Vertical

Correct Marks : 1 Wrong Marks : 0.25

----- ने समान मात्रा में प्रयास के साथ लगभग समान भूमि पर अधिक फसल उगाना संभव बना दिया?

Options :

1. ✔ हरित क्रांति
2. ✘ लाल क्रांति
3. ✘ श्वेत क्रांति

#### 4. ❌ नीली क्रांति

#### General Awareness2

Group Number :	4
Group Id :	96623167
Group Maximum Duration :	0
Group Minimum Duration :	0
Revisit allowed for view? :	No
Revisit allowed for edit? :	No
Break time:	0
Group Marks:	20
Revisit allowed for group Instructions? :	Yes
Maximum Instruction Time:	0
Minimum Instruction Time:	0

#### General Awareness2

Section Id :	966231182
Section Number :	1
Section type :	Online
Mandatory or Optional:	Mandatory
Number of Questions:	20
Number of Questions to be attempted:	20
Section Marks:	20
Display Number Panel:	Yes
Group All Questions:	No

Sub-Section Number:	1
Sub-Section Id:	966231190
Question Shuffling Allowed :	Yes

Question Number : 61 Question Id : 9662315469 Question Type : MCQ Option Shuffling : Yes Display Question Number : Yes  
Single Line Question Option : No Option Orientation : Vertical

Correct Marks : 1 Wrong Marks : 0.25

\_\_\_\_\_ is the highest point of Tamil Nadu.

Options :

1. ❌ Phawngpui
2. ✔️ Doddabetta
3. ❌ Saramati
4. ❌ Deomali

Question Number : 61 Question Id : 9662315469 Question Type : MCQ Option Shuffling : Yes Display Question Number : Yes  
Single Line Question Option : No Option Orientation : Vertical

Correct Marks : 1 Wrong Marks : 0.25

\_\_\_\_\_ तमिल नाडु का उच्चतम बिंदु है।

Options :

1. ❌ फौगपुई
2. ✔️ दोडुबेट्ट



3. ✘ सारामती
4. ✘ देवमाली

Question Number : 62 Question Id : 9662315470 Question Type : MCQ Option Shuffling : Yes Display Question Number : Yes  
Single Line Question Option : No Option Orientation : Vertical

Correct Marks : 1 Wrong Marks : 0.25

Who was the President of the Karachi Session of Indian National Congress?

Options :

1. ✘ Subhas Chandra Bose
2. ✘ Bhagat Singh
3. ✔ Vallabh Bhai Patel
4. ✘ Jawaharlal Nehru

Question Number : 62 Question Id : 9662315470 Question Type : MCQ Option Shuffling : Yes Display Question Number : Yes  
Single Line Question Option : No Option Orientation : Vertical

Correct Marks : 1 Wrong Marks : 0.25

भारतीय राष्ट्रीय कांग्रेस के कराची सत्र के अध्यक्ष कौन थे?

Options :

1. ✘ सुभाष चंद्र बोस
2. ✘ भगत सिंह
3. ✔ वल्लभ भाई पटेल
4. ✘ जवाहरलाल नेहरू

Question Number : 63 Question Id : 9662315471 Question Type : MCQ Option Shuffling : Yes Display Question Number : Yes  
Single Line Question Option : No Option Orientation : Vertical

Correct Marks : 1 Wrong Marks : 0.25

Where was the first session of Indian National Congress after Independence held?

Options :

1. ✔ Jaipur
2. ✘ Punjab
3. ✘ Kanpur
4. ✘ Kolkata

Question Number : 63 Question Id : 9662315471 Question Type : MCQ Option Shuffling : Yes Display Question Number : Yes  
Single Line Question Option : No Option Orientation : Vertical

Correct Marks : 1 Wrong Marks : 0.25

स्वतंत्रता के बाद भारतीय राष्ट्रीय कांग्रेस का पहला सत्र कहाँ आयोजित किया गया था?

Options :

1. ✔ जयपुर
2. ✘ पंजाब
3. ✘ कानपुर
4. ✘ कोलकाता

Question Number : 64 Question Id : 9662315472 Question Type : MCQ Option Shuffling : Yes Display Question Number : Yes  
Single Line Question Option : No Option Orientation : Vertical

Correct Marks : 1 Wrong Marks : 0.25

----- was the last ruler of the Khilji Dynasty.

Options :

1. ✔ Khusrau Khan

2. ✘ Ghazni Malik
3. ✘ Qutb al-Din Aibak
4. ✘ Qutbuddin Mubarak Shah

Question Number : 64 Question Id : 9662315472 Question Type : MCQ Option Shuffling : Yes Display Question Number : Yes  
Single Line Question Option : No Option Orientation : Vertical

Correct Marks : 1 Wrong Marks : 0.25

----- खिलजी राजवंश का अंतिम शासक था

Options :

1. ✔ खुसरो खान
2. ✘ गजनी मलिक
3. ✘ कुतुब-उद-दीन ऐबक
4. ✘ कुतुबुद्दीन मुबारक शाह

Question Number : 65 Question Id : 9662315473 Question Type : MCQ Option Shuffling : Yes Display Question Number : Yes  
Single Line Question Option : No Option Orientation : Vertical

Correct Marks : 1 Wrong Marks : 0.25

Who defeated Rana Sangram Singh in the battle of Khanwa?

Options :

1. ✘ Jahangir
2. ✘ Akbar
3. ✘ Humayun
4. ✔ Babur

Question Number : 65 Question Id : 9662315473 Question Type : MCQ Option Shuffling : Yes Display Question Number : Yes  
Single Line Question Option : No Option Orientation : Vertical

Correct Marks : 1 Wrong Marks : 0.25

खानवा के युद्ध में राणा संग्राम सिंह को किसने हराया?

Options :

1. ✘ जहांगीर
2. ✘ अकबर
3. ✘ हुमायूँ
4. ✔ बाबर

Question Number : 66 Question Id : 9662315474 Question Type : MCQ Option Shuffling : Yes Display Question Number : Yes  
Single Line Question Option : No Option Orientation : Vertical

Correct Marks : 1 Wrong Marks : 0.25

----- ने मालवा के जय सिंह को 'मिर्जा राजा' की उपाधि दी।

Options :

1. ✘ मुहम्मद शाह
2. ✘ बहादुर शाह
3. ✔ जहांदार शाह
4. ✘ अहमद शाह

Question Number : 66 Question Id : 9662315474 Question Type : MCQ Option Shuffling : Yes Display Question Number : Yes  
Single Line Question Option : No Option Orientation : Vertical

Correct Marks : 1 Wrong Marks : 0.25

----- gave the title of 'Mirza Raja' to Jai Singh of Malwa.

Options :

- ✘ Muhammad Shah
- ✘ Bahadur Shah
- ✔ Jahandar Shah
- ✘ Ahmed Shah

Question Number : 67 Question Id : 9662315475 Question Type : MCQ Option Shuffling : Yes Display Question Number : Yes  
Single Line Question Option : No Option Orientation : Vertical

Correct Marks : 1 Wrong Marks : 0.25

Who among the following Mughal Emperors was also called Rangila?

Options :

- ✔ Muhammad Shah
- ✘ Bahadur Shah
- ✘ Jahandar Singh
- ✘ Ahmed Shah

Question Number : 67 Question Id : 9662315475 Question Type : MCQ Option Shuffling : Yes Display Question Number : Yes  
Single Line Question Option : No Option Orientation : Vertical

Correct Marks : 1 Wrong Marks : 0.25

निम्नलिखित में से कौन मुगल सम्राटों को रंगीला भी कहा जाता था?

Options :

- ✔ मुहम्मद शाह
- ✘ बहादुर शाह
- ✘ जहांदार सिंह
- ✘ अहमद शाह

Question Number : 68 Question Id : 9662315476 Question Type : MCQ Option Shuffling : Yes Display Question Number : Yes  
Single Line Question Option : No Option Orientation : Vertical

Correct Marks : 1 Wrong Marks : 0.25

'Ace Against Odds' is an autobiography of \_\_\_\_\_.

Options :

- ✘ Saina Nehwal
- ✘ Kapil Dev
- ✔ Sania Mirza
- ✘ Abhinav Bindra

Question Number : 68 Question Id : 9662315476 Question Type : MCQ Option Shuffling : Yes Display Question Number : Yes  
Single Line Question Option : No Option Orientation : Vertical

Correct Marks : 1 Wrong Marks : 0.25

'ऐस अगेस्ट ऑड्स' \_\_\_\_\_ की आत्मकथा है।

Options :

- ✘ साइना नेहवाल
- ✘ कपिल देव
- ✔ सानिया मिर्जा
- ✘ अभिनव बिंद्रा

Question Number : 69 Question Id : 9662315477 Question Type : MCQ Option Shuffling : Yes Display Question Number : Yes  
Single Line Question Option : No Option Orientation : Vertical

Correct Marks : 1 Wrong Marks : 0.25

UNO has \_\_\_\_ number of official languages.

Options :

1. ✓ Six
2. ✗ five
3. ✗ seven
4. ✗ eight

Question Number : 69 Question Id : 9662315477 Question Type : MCQ Option Shuffling : Yes Display Question Number : Yes  
Single Line Question Option : No Option Orientation : Vertical

Correct Marks : 1 Wrong Marks : 0.25

UNO में आधिकारिक भाषाओं की संख्या \_\_\_\_\_ है।

Options :

1. ✓ छह
2. ✗ पांच
3. ✗ सात
4. ✗ आठ

Question Number : 70 Question Id : 9662315478 Question Type : MCQ Option Shuffling : Yes Display Question Number : Yes  
Single Line Question Option : No Option Orientation : Vertical

Correct Marks : 1 Wrong Marks : 0.25

\_\_\_\_\_ is known as father of India's space program.

Options :

1. ✗ Jawaharlal Nehru
2. ✗ Meghnad Saha
3. ✓ Vikram Sarabhai
4. ✗ Satish Dhawan

Question Number : 70 Question Id : 9662315478 Question Type : MCQ Option Shuffling : Yes Display Question Number : Yes  
Single Line Question Option : No Option Orientation : Vertical

Correct Marks : 1 Wrong Marks : 0.25

\_\_\_\_\_ को भारत के अंतरिक्ष कार्यक्रम के पिता के रूप में जाना जाता है।

Options :

1. ✗ जवाहरलाल नेहरू
2. ✗ मेघनाद साहा
3. ✓ विक्रम साराभाई
4. ✗ सतीश धवन

Question Number : 71 Question Id : 9662315479 Question Type : MCQ Option Shuffling : Yes Display Question Number : Yes  
Single Line Question Option : No Option Orientation : Vertical

Correct Marks : 1 Wrong Marks : 0.25

What is the real name of Tansen?

Options :

1. ✗ Dhanpat Rai
2. ✗ Ratnakar
3. ✓ Ramtanu Pandey
4. ✗ Raghupati Sahay

Question Number : 71 Question Id : 9662315479 Question Type : MCQ Option Shuffling : Yes Display Question Number : Yes  
Single Line Question Option : No Option Orientation : Vertical

Correct Marks : 1 Wrong Marks : 0.25

तानसेन का वास्तविक नाम क्या है?

Options :

- ✘ धनपत राय
- ✘ रत्नाकर
- ✔ रामतनु पांडे
- ✘ रघुपति सहाय

Question Number : 72 Question Id : 9662315480 Question Type : MCQ Option Shuffling : Yes Display Question Number : Yes  
Single Line Question Option : No Option Orientation : Vertical

Correct Marks : 1 Wrong Marks : 0.25

Who among the following won the Filmfare award 2019 for the best actor (male) in a leading role?

Options :

- ✔ Ranbir Kapoor
- ✘ Ayushman Khurrana
- ✘ Ranveer Singh
- ✘ Shahid Kapoor

Question Number : 72 Question Id : 9662315480 Question Type : MCQ Option Shuffling : Yes Display Question Number : Yes  
Single Line Question Option : No Option Orientation : Vertical

Correct Marks : 1 Wrong Marks : 0.25

निम्नलिखित में से किसने एक अग्रणी भूमिका में सर्वश्रेष्ठ अभिनेता (पुरुष) के लिए फिल्मफेयर पुरस्कार 2019 जीता?

Options :

- ✔ रणवीर कपूर
- ✘ आयुष्मान खुराना
- ✘ रणवीर सिंह
- ✘ शाहीद कपूर

Question Number : 73 Question Id : 9662315481 Question Type : MCQ Option Shuffling : Yes Display Question Number : Yes  
Single Line Question Option : No Option Orientation : Vertical

Correct Marks : 1 Wrong Marks : 0.25

Who among the following is a Bharat Ratna winner in 2019?

Options :

- ✔ Bhupen Hazarika
- ✘ Sukhdev Singh
- ✘ Manoj Bajpayee
- ✘ Darshan Lal Jain

Question Number : 73 Question Id : 9662315481 Question Type : MCQ Option Shuffling : Yes Display Question Number : Yes  
Single Line Question Option : No Option Orientation : Vertical

Correct Marks : 1 Wrong Marks : 0.25

2019 में भारत रत्न विजेता निम्नलिखित में से कौन है?

Options :

- ✔ भूपेन हाजरिका
- ✘ सुखदेव सिंह
- ✘ मनोज बाजपेयी
- ✘ दर्शन लाल जैन

Question Number : 74 Question Id : 9662315482 Question Type : MCQ Option Shuffling : Yes Display Question Number : Yes  
Single Line Question Option : No Option Orientation : Vertical

Correct Marks : 1 Wrong Marks : 0.25

Which among the following Articles of the Indian Constitution is associated with the abolition of titles?

Options :

1. ✓ Article 18
2. ✗ Article 20
3. ✗ Article 23
4. ✗ Article 25

Question Number : 74 Question Id : 9662315482 Question Type : MCQ Option Shuffling : Yes Display Question Number : Yes  
Single Line Question Option : No Option Orientation : Vertical

Correct Marks : 1 Wrong Marks : 0.25

भारतीय संविधान के निम्नलिखित लेखों में से कौन सा शीर्षकों के उन्मूलन से जुड़ा है?

Options :

1. ✓ अनुच्छेद 18
2. ✗ अनुच्छेद 20
3. ✗ अनुच्छेद 23
4. ✗ अनुच्छेद 25

Question Number : 75 Question Id : 9662315483 Question Type : MCQ Option Shuffling : Yes Display Question Number : Yes  
Single Line Question Option : No Option Orientation : Vertical

Correct Marks : 1 Wrong Marks : 0.25

\_\_\_\_\_ of the Indian Constitution deals with the Citizenship of India.

Options :

1. ✗ Part III
2. ✗ Part I
3. ✓ Part II
4. ✗ Part IV

Question Number : 75 Question Id : 9662315483 Question Type : MCQ Option Shuffling : Yes Display Question Number : Yes  
Single Line Question Option : No Option Orientation : Vertical

Correct Marks : 1 Wrong Marks : 0.25

भारतीय संविधान का \_\_\_\_\_ भारत की नागरिकता से संबंधित है।

Options :

1. ✗ भाग III
2. ✗ भाग I
3. ✓ भाग II
4. ✗ भाग IV

Question Number : 76 Question Id : 9662315484 Question Type : MCQ Option Shuffling : Yes Display Question Number : Yes  
Single Line Question Option : No Option Orientation : Vertical

Correct Marks : 1 Wrong Marks : 0.25

Which among the following articles deals with the right of education?

Options :

1. ✗ Article 22
2. ✓ Article 21A
3. ✗ Article 24
4. ✗ Article 26

Question Number : 76 Question Id : 9662315484 Question Type : MCQ Option Shuffling : Yes Display Question Number : Yes  
Single Line Question Option : No Option Orientation : Vertical

Correct Marks : 1 Wrong Marks : 0.25

निम्नलिखित में से कौन सा लेख शिक्षा के अधिकार से संबंधित है?

Options :

1. ✘ अनुच्छेद 22
2. ✔ अनुच्छेद 21 A
3. ✘ अनुच्छेद 24
4. ✘ अनुच्छेद 26

Question Number : 77 Question Id : 9662315485 Question Type : MCQ Option Shuffling : Yes Display Question Number : Yes  
Single Line Question Option : No Option Orientation : Vertical

Correct Marks : 1 Wrong Marks : 0.25

Which Article of Indian Constitution deals with the rights of citizenship of certain persons migrated to India from Pakistan?

Options :

1. ✘ Article 10
2. ✔ Article 6
3. ✘ Article 5
4. ✘ Article 12

Question Number : 77 Question Id : 9662315485 Question Type : MCQ Option Shuffling : Yes Display Question Number : Yes  
Single Line Question Option : No Option Orientation : Vertical

Correct Marks : 1 Wrong Marks : 0.25

भारतीय संविधान का कौन सा अनुच्छेद पाकिस्तान से भारत में प्रवासित निश्चित व्यक्तियों की नागरिकता के अधिकारों से संबंधित है?

Options :

1. ✘ अनुच्छेद 10
2. ✔ अनुच्छेद 6
3. ✘ अनुच्छेद 5
4. ✘ अनुच्छेद 12

Question Number : 78 Question Id : 9662315486 Question Type : MCQ Option Shuffling : Yes Display Question Number : Yes  
Single Line Question Option : No Option Orientation : Vertical

Correct Marks : 1 Wrong Marks : 0.25

\_\_\_\_\_ won the Women's footballer of the year title at All India Football Federation (AIFF) 2018-19 awards.

Options :

1. ✔ Ashalata Devi
2. ✘ Aditi Chauhan
3. ✘ Sasmita Malik
4. ✘ Supriya Routray

Question Number : 78 Question Id : 9662315486 Question Type : MCQ Option Shuffling : Yes Display Question Number : Yes  
Single Line Question Option : No Option Orientation : Vertical

Correct Marks : 1 Wrong Marks : 0.25

\_\_\_\_\_ ने अखिल भारतीय फुटबॉल महासंघ (AIFF) 2018-19 पुरस्कारों में वीमेन फुटबॉलर ऑफ द ईयर का खिताब जीता।

Options :

1. ✔ आशालता देवी
2. ✘ अदिति चौहान
3. ✘ ससमिता मलिक

4. ✘ सुप्रिया राउतराय

Question Number : 79 Question Id : 9662315487 Question Type : MCQ Option Shuffling : Yes Display Question Number : Yes  
Single Line Question Option : No Option Orientation : Vertical

Correct Marks : 1 Wrong Marks : 0.25

\_\_\_\_\_ men's soccer team won 2019 CONCACAF Gold Cup by defeating United States men with 1-0 in the final.

Options :

1. ✘ Japan
2. ✘ China
3. ✘ India
4. ✔ Mexico

Question Number : 79 Question Id : 9662315487 Question Type : MCQ Option Shuffling : Yes Display Question Number : Yes  
Single Line Question Option : No Option Orientation : Vertical

Correct Marks : 1 Wrong Marks : 0.25

\_\_\_\_\_ पुरुष सॉकर टीम ने फाइनल में संयुक्त राज्य अमेरिका के पुरुषों को 1-0 से हराकर 2019 CONCACAF गोल्ड कप जीता

Options :

1. ✘ जापान
2. ✘ चीन
3. ✘ भारत
4. ✔ मेक्सिको

Question Number : 80 Question Id : 9662315488 Question Type : MCQ Option Shuffling : Yes Display Question Number : Yes  
Single Line Question Option : No Option Orientation : Vertical

Correct Marks : 1 Wrong Marks : 0.25

The United States of America (USA) won FIFA Women's World Cup 2019 title after beating \_\_\_\_\_ in final.

Options :

1. ✔ Netherlands
2. ✘ France
3. ✘ Russia
4. ✘ Brazil

Question Number : 80 Question Id : 9662315488 Question Type : MCQ Option Shuffling : Yes Display Question Number : Yes  
Single Line Question Option : No Option Orientation : Vertical

Correct Marks : 1 Wrong Marks : 0.25

संयुक्त राज्य अमेरिका (USA) ने फाइनल में \_\_\_\_\_ को हराकर फीफा महिला विश्व कप 2019 का खिताब जीता

Options :

1. ✔ नीदरलैंड
2. ✘ फ्रांस
3. ✘ रूस
4. ✘ ब्राज़ील

Arithmetic Ability1

Group Number :	5
Group Id :	96623168
Group Maximum Duration :	0
Group Minimum Duration :	0



Revisit allowed for view? :	No
Revisit allowed for edit? :	No
Break time:	0
Group Marks:	20
Revisit allowed for group Instructions? :	Yes
Maximum Instruction Time:	0
Minimum Instruction Time:	0

### Arithmetic Ability 1

Section Id :	966231183
Section Number :	1
Section type :	Online
Mandatory or Optional:	Mandatory
Number of Questions:	20
Number of Questions to be attempted:	20
Section Marks:	20
Display Number Panel:	Yes
Group All Questions:	No

Sub-Section Number:	1
Sub-Section Id:	966231191
Question Shuffling Allowed :	Yes

Question Number : 81 Question Id : 9662315489 Question Type : MCQ Option Shuffling : Yes Display Question Number : Yes  
Single Line Question Option : No Option Orientation : Vertical

Correct Marks : 1 Wrong Marks : 0.25

A number is checked for divisibility. It is tried and divided by 32, 40, 45 and 50. It leaves a remainder of 7 in each case. Find the minimum possible value of the number.

Options :

1. ✘ 3607
2. ✘ 3207
3. ✔ 7207
4. ✘ 14407

Question Number : 81 Question Id : 9662315489 Question Type : MCQ Option Shuffling : Yes Display Question Number : Yes  
Single Line Question Option : No Option Orientation : Vertical

Correct Marks : 1 Wrong Marks : 0.25

विभाज्यता के लिए एक संख्या की जांच की गई है। इसे 32, 40, 45 और 50 से विभाजित करने की कोशिश की जाती है। यह प्रत्येक मामले में 7 शेष छोड़ती है। संख्या का न्यूनतम संभव मूल्य ज्ञात करें।

Options :

1. ✘ 3607
2. ✘ 3207
3. ✔ 7207
4. ✘ 14407

Question Number : 82 Question Id : 9662315490 Question Type : MCQ Option Shuffling : Yes Display Question Number : Yes  
Single Line Question Option : No Option Orientation : Vertical

Correct Marks : 1 Wrong Marks : 0.25

परिणाम को एक पूर्ण वर्ग बनाने के लिए सबसे छोटी संख्या ज्ञात करें जिसके द्वारा 10800 को विभाजित किया जाना चाहिए।

Options :

1. ✘ 4
2. ✘ 2
3. ✘ 5
4. ✔ 3

Question Number : 82 Question Id : 9662315490 Question Type : MCQ Option Shuffling : Yes Display Question Number : Yes  
Single Line Question Option : No Option Orientation : Vertical

Correct Marks : 1 Wrong Marks : 0.25

Find the least number by which 10800 should be divided to make the result a perfect square.

Options :

1. ✘ 4
2. ✘ 2
3. ✘ 5
4. ✔ 3

Question Number : 83 Question Id : 9662315491 Question Type : MCQ Option Shuffling : Yes Display Question Number : Yes  
Single Line Question Option : No Option Orientation : Vertical

Correct Marks : 1 Wrong Marks : 0.25

The remainders 7, 8 and 9 are observed when 427, 638 and 849 are divided by a number. Find the square of the highest possible value of the number.

Options :

1. ✘ 900
2. ✘ 22500
3. ✔ 44100
4. ✘ 4900

Question Number : 83 Question Id : 9662315491 Question Type : MCQ Option Shuffling : Yes Display Question Number : Yes  
Single Line Question Option : No Option Orientation : Vertical

Correct Marks : 1 Wrong Marks : 0.25

शेष 7, 8 और 9 तब देखे जाते हैं जब 427, 638 और 849 को एक संख्या से विभाजित किया जाता है। संख्या के उच्चतम संभव मूल्य का वर्ग ज्ञात करें।

Options :

1. ✘ 900
2. ✘ 22500
3. ✔ 44100
4. ✘ 4900

Question Number : 84 Question Id : 9662315492 Question Type : MCQ Option Shuffling : Yes Display Question Number : Yes  
Single Line Question Option : No Option Orientation : Vertical

Correct Marks : 1 Wrong Marks : 0.25

What decimal of a day is a minute?

Options :

1. ✔ 0.0006944
2. ✘ 0.006944
3. ✘ 0.00006944
4. ✘ 0.06944

Question Number : 84 Question Id : 9662315492 Question Type : MCQ Option Shuffling : Yes Display Question Number : Yes  
Single Line Question Option : No Option Orientation : Vertical

Correct Marks : 1 Wrong Marks : 0.25

एक दिन में एक मिनट का दशमलव क्या है?

Options :

- ✓ 0.0006944
- ✗ 0.006944
- ✗ 0.00006944
- ✗ 0.06944

Question Number : 85 Question Id : 9662315493 Question Type : MCQ Option Shuffling : Yes Display Question Number : Yes  
Single Line Question Option : No Option Orientation : Vertical

Correct Marks : 1 Wrong Marks : 0.25

3 runners are practicing for a race on a circular race track. They respectively take 75, 80 and 90 seconds to complete 1 lap each. They start together and finish at the point of time when they meet again at the starting point. By the time they first meet again, how many laps of the track have they completed together?

Options :

- ✗ 123
- ✗ 127
- ✗ 130
- ✓ 133

Question Number : 85 Question Id : 9662315493 Question Type : MCQ Option Shuffling : Yes Display Question Number : Yes  
Single Line Question Option : No Option Orientation : Vertical

Correct Marks : 1 Wrong Marks : 0.25

3 धावक एक गोलाकार दौड़ ट्रैक पर दौड़ के लिए अभ्यास कर रहे हैं वे क्रमशः 1 लैप को पूरा करने में 75, 80 और 90 सेकंड का समय लेते हैं वे एक साथ शुरू करते हैं और उस बिंदु पर समाप्त करते हैं जब वे शुरुआती बिंदु पर फिर से मिलते हैं जब तक वे फिर से पहली बार मिलते हैं, तब तक वे एक साथ ट्रैक के कितने लैप पूरे कर चुके होते हैं?

Options :

- ✗ 123
- ✗ 127
- ✗ 130
- ✓ 133

Question Number : 86 Question Id : 9662315494 Question Type : MCQ Option Shuffling : Yes Display Question Number : Yes  
Single Line Question Option : No Option Orientation : Vertical

Correct Marks : 1 Wrong Marks : 0.25

Find the LCM of  $120/6$ ,  $140/4$ ,  $150/3$ ,  $175/7$  and  $280/7$ .

Options :

- ✗ 700
- ✗ 2800
- ✓ 1400
- ✗ 350

Question Number : 86 Question Id : 9662315494 Question Type : MCQ Option Shuffling : Yes Display Question Number : Yes  
Single Line Question Option : No Option Orientation : Vertical

Correct Marks : 1 Wrong Marks : 0.25

$120/6$ ,  $140/4$ ,  $150/3$ ,  $175/7$  और  $280/7$  के लघुत्तम समापवर्तक ज्ञात करें

Options :

- ✗ 700
- ✗ 2800

3. ✓ 1400

4. ✗ 350

Question Number : 87 Question Id : 9662315495 Question Type : MCQ Option Shuffling : Yes Display Question Number : Yes  
Single Line Question Option : No Option Orientation : Vertical

Correct Marks : 1 Wrong Marks : 0.25

What is the result when 0.4747474747... is converted to a fraction?

Options :

1. ✗ 4/9

2. ✓ 47/99

3. ✗ 477/999

4. ✗ 47/999

Question Number : 87 Question Id : 9662315495 Question Type : MCQ Option Shuffling : Yes Display Question Number : Yes  
Single Line Question Option : No Option Orientation : Vertical

Correct Marks : 1 Wrong Marks : 0.25

जब 0.4747474747... को एक अपूर्णाक में बदला जाता है तो परिणाम क्या होता है?

Options :

1. ✗ 4/9

2. ✓ 47/99

3. ✗ 477/999

4. ✗ 47/999

Question Number : 88 Question Id : 9662315496 Question Type : MCQ Option Shuffling : Yes Display Question Number : Yes  
Single Line Question Option : No Option Orientation : Vertical

Correct Marks : 1 Wrong Marks : 0.25

Solve the following equation to find the value of X:  $(9 \times 8 \div 3) + (18 \times 3 \div 6) - (18 \times 7 \div X) = 12$

Options :

1. ✗ 4

2. ✗ 5

3. ✓ 6

4. ✗ 7

Question Number : 88 Question Id : 9662315496 Question Type : MCQ Option Shuffling : Yes Display Question Number : Yes  
Single Line Question Option : No Option Orientation : Vertical

Correct Marks : 1 Wrong Marks : 0.25

X का मूल्य ज्ञात करने के लिए निम्नलिखित समीकरण हल करें:  $(9 \times 8 \div 3) + (18 \times 3 \div 6) - (18 \times 7 \div X) = 12$

Options :

1. ✗ 4

2. ✗ 5

3. ✓ 6

4. ✗ 7

Question Number : 89 Question Id : 9662315497 Question Type : MCQ Option Shuffling : Yes Display Question Number : Yes  
Single Line Question Option : No Option Orientation : Vertical

Correct Marks : 1 Wrong Marks : 0.25

Convert 10101011 binary to decimal.

Options :

1. ✓ 171

2. ✖ 173
3. ✖ 170
4. ✖ 172

Question Number : 89 Question Id : 9662315497 Question Type : MCQ Option Shuffling : Yes Display Question Number : Yes  
Single Line Question Option : No Option Orientation : Vertical

Correct Marks : 1 Wrong Marks : 0.25

10101011 बाइनरी को दशमलव में बदलो

Options :

1. ✔ 171
2. ✖ 173
3. ✖ 170
4. ✖ 172

Question Number : 90 Question Id : 9662315498 Question Type : MCQ Option Shuffling : Yes Display Question Number : Yes  
Single Line Question Option : No Option Orientation : Vertical

Correct Marks : 1 Wrong Marks : 0.25

The expression  $(1.44 \times 1.44 + 2.8 \times X + 2.8 \times 2.8)$  is a perfect square. What is the value of X?

Options :

1. ✖ 1.44
2. ✖ 2.8
3. ✔ 2.88
4. ✖ 0

Question Number : 90 Question Id : 9662315498 Question Type : MCQ Option Shuffling : Yes Display Question Number : Yes  
Single Line Question Option : No Option Orientation : Vertical

Correct Marks : 1 Wrong Marks : 0.25

$(1.44 \times 1.44 + 2.8 \times X + 2.8 \times 2.8)$  एक पूर्ण वर्ग है। X का मूल्य क्या है?

Options :

1. ✖ 1.44
2. ✖ 2.8
3. ✔ 2.88
4. ✖ 0

Question Number : 91 Question Id : 9662315499 Question Type : MCQ Option Shuffling : Yes Display Question Number : Yes  
Single Line Question Option : No Option Orientation : Vertical

Correct Marks : 1 Wrong Marks : 0.25

The average of 100 numbers is 400. The average of the first 25 numbers is 250 and the average of the next 25 numbers is 750. What is the average of the remaining 50 numbers?

Options :

1. ✖ 250
2. ✖ 275
3. ✖ 325
4. ✔ 300

Question Number : 91 Question Id : 9662315499 Question Type : MCQ Option Shuffling : Yes Display Question Number : Yes  
Single Line Question Option : No Option Orientation : Vertical

Correct Marks : 1 Wrong Marks : 0.25

100 संख्याओं का औसत 400 है पहले 25 संख्याओं का औसत 250 है और अगली 25 संख्याओं का औसत 750 है शेष 50 संख्याओं का औसत क्या है?

Options :

- ✘ 250
- ✘ 275
- ✘ 325
- ✔ 300

Question Number : 92 Question Id : 9662315500 Question Type : MCQ Option Shuffling : Yes Display Question Number : Yes Single Line Question Option : No Option Orientation : Vertical

Correct Marks : 1 Wrong Marks : 0.25

A supermarket offers shirts for sale. The offer is 20 percent for the first 2 shirts and 40 percent henceforth for every shirt. What is the net discount on a purchase of 5 shirts of the same price?

Options :

- ✘ 22 percent
- ✘ 30 percent
- ✘ 36 percent
- ✔ 32 percent

Question Number : 92 Question Id : 9662315500 Question Type : MCQ Option Shuffling : Yes Display Question Number : Yes Single Line Question Option : No Option Orientation : Vertical

Correct Marks : 1 Wrong Marks : 0.25

एक सुपरमार्केट बिक्री के लिए शर्ट प्रदान करता है। यह ऑफर पहले 2 शर्ट के लिए 20 प्रतिशत और दो से अधिक हर शर्ट के लिए 40 प्रतिशत है। उसी मूल्य के 5 शर्ट की खरीद पर शुद्ध छूट क्या है?

Options :

- ✘ 22 प्रतिशत
- ✘ 30 प्रतिशत
- ✘ 36 प्रतिशत
- ✔ 32 प्रतिशत

Question Number : 93 Question Id : 9662315501 Question Type : MCQ Option Shuffling : Yes Display Question Number : Yes Single Line Question Option : No Option Orientation : Vertical

Correct Marks : 1 Wrong Marks : 0.25

A fruit seller was buying and selling mangoes. He bought different mangoes, mixed them up and sold them in a bunch of a dozen. He bought 60 mangoes for Rs 720, another 150 mangoes for Rs 2400 and the last 30 mangoes for Rs 880. At what price should he sell a dozen mangoes to make an average profit of 20 percent?

Options :

- ✘ Rs 200
- ✘ Rs 160
- ✘ Rs 225
- ✔ Rs 240

Question Number : 93 Question Id : 9662315501 Question Type : MCQ Option Shuffling : Yes Display Question Number : Yes Single Line Question Option : No Option Orientation : Vertical

Correct Marks : 1 Wrong Marks : 0.25

एक फल विक्रेता आम खरीद और बेच रहा था। उसने अलग-अलग आम खरीदे, उन्हें मिलाया और उन्हें एक दर्जन के हिसाब से बेच दिया। उसने 60 आमों को 720 रुपए में खरीदा, अन्य 150 आमों को 2400 रुपए और अंत में 30 आमों को 880 रुपए में खरीदा। 20 प्रतिशत का औसत लाभ कमाने के लिए उसे एक दर्जन आमों को किस कीमत पर बेचना चाहिए?

Options :

- ✘ 200 रुपए

2. ✘ 160 रुपए
3. ✘ 225 रुपए
4. ✔ 240 रुपए

Question Number : 94 Question Id : 9662315502 Question Type : MCQ Option Shuffling : Yes Display Question Number : Yes  
Single Line Question Option : No Option Orientation : Vertical

Correct Marks : 1 Wrong Marks : 0.25

3 students scored 20 percent, 40 percent and 80 percent more than the average marks of the class. Find the ratio of the marks of the 3 students.

Options :

1. ✘ 5:7:9
2. ✔ 6:7:9
3. ✘ 6:7:8
4. ✘ 6:8:9

Question Number : 94 Question Id : 9662315502 Question Type : MCQ Option Shuffling : Yes Display Question Number : Yes  
Single Line Question Option : No Option Orientation : Vertical

Correct Marks : 1 Wrong Marks : 0.25

3 छात्रों ने कक्षा के औसत अंकों की तुलना में 20 प्रतिशत, 40 प्रतिशत और 80 प्रतिशत अधिक अंक प्राप्त किए। उन 3 छात्रों के अंकों का अनुपात ज्ञात करें।

Options :

1. ✘ 5:7:9
2. ✔ 6:7:9
3. ✘ 6:7:8
4. ✘ 6:8:9

Question Number : 95 Question Id : 9662315503 Question Type : MCQ Option Shuffling : Yes Display Question Number : Yes  
Single Line Question Option : No Option Orientation : Vertical

Correct Marks : 1 Wrong Marks : 0.25

An article is being sold at a discount of 20 percent and a tax of 10 percent is applied thereafter. If the selling price is Rs 176, then what was the cost price?

Options :

1. ✘ Rs 180
2. ✔ Rs 200
3. ✘ Rs 240
4. ✘ Rs 250

Question Number : 95 Question Id : 9662315503 Question Type : MCQ Option Shuffling : Yes Display Question Number : Yes  
Single Line Question Option : No Option Orientation : Vertical

Correct Marks : 1 Wrong Marks : 0.25

एक सामान 20 प्रतिशत की छूट पर बेचा जाता है और उसके बाद 10 प्रतिशत का कर लगाया जाता है। यदि विक्रय मूल्य 176 रुपए है, तो लागत मूल्य क्या था?

Options :

1. ✘ 180 रुपए
2. ✔ 200 रुपए
3. ✘ 240 रुपए
4. ✘ 250 रुपए

Question Number : 96 Question Id : 9662315504 Question Type : MCQ Option Shuffling : Yes Display Question Number : Yes  
Single Line Question Option : No Option Orientation : Vertical

**Correct Marks : 1 Wrong Marks : 0.25**

A farmer distributed his land amongst his 3 sons. The eldest son got 40 percent of the land. The youngest son got  $\frac{2}{3}$ rd of the remaining land and the second son got the land left over. If the second son got 20 acres of land as his share, how much land did the farmer own?

**Options :**

1. ✓ 100 acres
2. ✗ 80 acres
3. ✗ 120 acres
4. ✗ 96 acres

**Question Number : 96 Question Id : 9662315504 Question Type : MCQ Option Shuffling : Yes Display Question Number : Yes Single Line Question Option : No Option Orientation : Vertical**

**Correct Marks : 1 Wrong Marks : 0.25**

एक किसान ने अपने 3 बेटों के बीच अपनी जमीन बांटी। बड़े बेटे को 40 प्रतिशत जमीन मिली। सबसे छोटे बेटे को बची हुई जमीन का  $\frac{2}{3}$  हिस्सा मिला और दूसरे बेटे को बची हुई जमीन मिली। यदि दूसरे बेटे को उसके हिस्से के रूप में 20 एकड़ जमीन मिली, तो किसान के पास कितनी जमीन थी?

**Options :**

1. ✓ 100 एकड़
2. ✗ 80 एकड़
3. ✗ 120 एकड़
4. ✗ 96 एकड़

**Question Number : 97 Question Id : 9662315505 Question Type : MCQ Option Shuffling : Yes Display Question Number : Yes Single Line Question Option : No Option Orientation : Vertical**

**Correct Marks : 1 Wrong Marks : 0.25**

A retailer sells vegetables to customers at the cost price. However, he cheats by weighing 80 grams less per kg. How much profit does he make?

**Options :**

1. ✗ 2 percent
2. ✗ 10 percent
3. ✗ 6 percent
4. ✓ 8 percent

**Question Number : 97 Question Id : 9662315505 Question Type : MCQ Option Shuffling : Yes Display Question Number : Yes Single Line Question Option : No Option Orientation : Vertical**

**Correct Marks : 1 Wrong Marks : 0.25**

एक खुदरा विक्रेता ग्राहकों को लागत मूल्य पर सब्जियां बेचता है। हालांकि, वह प्रति kg 80 ग्राम कम वजन कर लोगों को ठगता है। वह कितना लाभ कमाता है?

**Options :**

1. ✗ 2 प्रतिशत
2. ✗ 10 प्रतिशत
3. ✗ 6 प्रतिशत
4. ✓ 8 प्रतिशत

**Question Number : 98 Question Id : 9662315506 Question Type : MCQ Option Shuffling : Yes Display Question Number : Yes Single Line Question Option : No Option Orientation : Vertical**

**Correct Marks : 1 Wrong Marks : 0.25**

X bought 20 articles at a certain price. He sold 16 articles for the same price. How much profit did he make?

**Options :**

1. ✗ 20 percent
2. ✓ 25 percent



3. ✖ 30 percent

4. ✖ 35 percent

Question Number : 98 Question Id : 9662315506 Question Type : MCQ Option Shuffling : Yes Display Question Number : Yes  
Single Line Question Option : No Option Orientation : Vertical

Correct Marks : 1 Wrong Marks : 0.25

X ने एक निश्चित मूल्य पर 20 वस्तुएं खरीदीं। उसने वही कीमत पर 16 वस्तु बेचो उसने कितना लाभ कमाया?

Options :

1. ✖ 20 प्रतिशत

2. ✔ 25 प्रतिशत

3. ✖ 30 प्रतिशत

4. ✖ 35 प्रतिशत

Question Number : 99 Question Id : 9662315507 Question Type : MCQ Option Shuffling : Yes Display Question Number : Yes  
Single Line Question Option : No Option Orientation : Vertical

Correct Marks : 1 Wrong Marks : 0.25

A shopkeeper bought 5 shirts for Rs 1000 each. He sold 3 shirts for Rs 800. At what price each should he sell the other 2 shirts in order to gain an overall of 20 percent?

Note: For this question, discrepancy is found in question/answer. So, this question is ignored for all candidates.

Options :

1. Rs 2300

2. Rs 2400

3. Rs 1800

4. Rs 2100

Question Number : 99 Question Id : 9662315507 Question Type : MCQ Option Shuffling : Yes Display Question Number : Yes  
Single Line Question Option : No Option Orientation : Vertical

Correct Marks : 1 Wrong Marks : 0.25

एक दुकानदार ने 1000 रुपए में 5 शर्ट खरीदीं उसने 800 रुपए में 3 शर्ट बेचो कुल मिलकर 20 प्रतिशत का लाभ कमाने के लिए उसे किस कीमत पर शेष दो शर्ट(प्रत्येक) बेचने चाहिए?

Note: For this question, discrepancy is found in question/answer. So, this question is ignored for all candidates.

Options :

1. 2300 रुपए

2. 2400 रुपए

3. 1800 रुपए

4. 2100 रुपए

Question Number : 100 Question Id : 9662315508 Question Type : MCQ Option Shuffling : Yes Display Question Number : Yes  
Single Line Question Option : No Option Orientation : Vertical

Correct Marks : 1 Wrong Marks : 0.25

Find the ratio of the sum of the first 4 prime numbers and the sum of the first 4 composite numbers.

Options :

1. ✖ 16:25

2. ✖ 18:27

3. ✔ 17:27

4. ✖ 19:25

Question Number : 100 Question Id : 9662315508 Question Type : MCQ Option Shuffling : Yes Display Question Number : Yes  
Single Line Question Option : No Option Orientation : Vertical

Correct Marks : 1 Wrong Marks : 0.25

पहली 4 अभाज्य संख्याओं के योग का अनुपात और पहली 4 संयुक्त संख्याओं का योग ज्ञात करें

Options :

1. ✘ 16:25

2. ✘ 18:27

3. ✔ 17:27

4. ✘ 19:25

#### Arithmetic Ability2

Group Number :	6
Group Id :	96623169
Group Maximum Duration :	0
Group Minimum Duration :	0
Revisit allowed for view? :	No
Revisit allowed for edit? :	No
Break time:	0
Group Marks:	20
Revisit allowed for group Instructions? :	Yes
Maximum Instruction Time:	0
Minimum Instruction Time:	0

#### Arithmetic Ability2

Section Id :	966231184
Section Number :	1
Section type :	Online
Mandatory or Optional:	Mandatory
Number of Questions:	20
Number of Questions to be attempted:	20
Section Marks:	20
Display Number Panel:	Yes
Group All Questions:	No

Sub-Section Number:	1
Sub-Section Id:	966231192
Question Shuffling Allowed :	Yes

Question Number : 101 Question Id : 9662315509 Question Type : MCQ Option Shuffling : Yes Display Question Number : Yes  
Single Line Question Option : No Option Orientation : Vertical

Correct Marks : 1 Wrong Marks : 0.25

What is the ratio between 1 foot and 1 inch?

Options :

1. ✘ 10:1

2. ✔ 12:1

3. ✘ 15:1

4. ✘ 20:1

Question Number : 101 Question Id : 9662315509 Question Type : MCQ Option Shuffling : Yes Display Question Number : Yes  
Single Line Question Option : No Option Orientation : Vertical

Correct Marks : 1 Wrong Marks : 0.25

1 फुट और 1 इंच के बीच का अनुपात क्या है?

Options :

1. ✘ 10:1
2. ✔ 12:1
3. ✘ 15:1
4. ✘ 20:1

Question Number : 102 Question Id : 9662315510 Question Type : MCQ Option Shuffling : Yes Display Question Number : Yes  
Single Line Question Option : No Option Orientation : Vertical

Correct Marks : 1 Wrong Marks : 0.25

A number is divided into 4 parts such that  $\frac{2}{3}$ rd of the first part,  $\frac{2}{5}$ th of the second part, a quarter of the third part and  $\frac{1}{6}$ th of the 4th part are the same. If the 4th part is 600, find the number.

Options :

1. ✔ 1400
2. ✘ 1200
3. ✘ 1500
4. ✘ 1800

Question Number : 102 Question Id : 9662315510 Question Type : MCQ Option Shuffling : Yes Display Question Number : Yes  
Single Line Question Option : No Option Orientation : Vertical

Correct Marks : 1 Wrong Marks : 0.25

एक संख्या को 4 भागों में विभाजित किया गया है जैसे कि पहले भाग का  $\frac{2}{3}$  वां, दूसरे भाग का  $\frac{2}{5}$ वां, तीसरे भाग का एक चौथाई और 4 भाग का  $\frac{1}{6}$  वां भाग समान है यदि 4 वां भाग 600 है, तो संख्या ज्ञात कीजिए।

Options :

1. ✔ 1400
2. ✘ 1200
3. ✘ 1500
4. ✘ 1800

Question Number : 103 Question Id : 9662315511 Question Type : MCQ Option Shuffling : Yes Display Question Number : Yes  
Single Line Question Option : No Option Orientation : Vertical

Correct Marks : 1 Wrong Marks : 0.25

X borrows Rs 100000 at 10 percent compound interest for 3 years and lends Rs 200000 after 1 year at 20 percent compound interest. How much is his interest earnings after 3 years?

Options :

1. ✔ Rs 54900
2. ✘ Rs 27450
3. ✘ Rs 44000
4. ✘ Rs 82350

Question Number : 103 Question Id : 9662315511 Question Type : MCQ Option Shuffling : Yes Display Question Number : Yes  
Single Line Question Option : No Option Orientation : Vertical

Correct Marks : 1 Wrong Marks : 0.25

X 3 साल के लिए 10 प्रतिशत चक्रवृद्धि ब्याज पर 100000 रुपए उधार लेता है और 20 प्रतिशत चक्रवृद्धि ब्याज पर 1 वर्ष के बाद 200000 रुपए उधार देता है। 3 साल बाद उसकी ब्याज की आय कितनी है?

Options :

1. ✓ 54900 रुपए
2. ✗ 27450 रुपए
3. ✗ 44000 रुपए
4. ✗ 82350 रुपए

Question Number : 104 Question Id : 9662315512 Question Type : MCQ Option Shuffling : Yes Display Question Number : Yes Single Line Question Option : No Option Orientation : Vertical

Correct Marks : 1 Wrong Marks : 0.25

A principal of Rs 20000 amounted to Rs 30000 in 5 years time at simple interest. The rate of interest for the first 3 years was 8 percent p.a. What was the rate of interest for the last 2 years each?

Options :

1. ✗ 10.50 percent
2. ✗ 12 percent
3. ✗ 12.50 percent
4. ✓ 13 percent

Question Number : 104 Question Id : 9662315512 Question Type : MCQ Option Shuffling : Yes Display Question Number : Yes Single Line Question Option : No Option Orientation : Vertical

Correct Marks : 1 Wrong Marks : 0.25

साधारण ब्याज पर 20000 रुपए का मूलधन 5 वर्ष के समय में 30000 रुपए हो गया। पहले 3 वर्षों के लिए ब्याज की दर 8 प्रतिशत थी। प्रति वर्ष पिछले 2 वर्षों से ब्याज दर क्या थी?

Options :

1. ✗ 10.50 प्रतिशत
2. ✗ 12 प्रतिशत
3. ✗ 12.50 प्रतिशत
4. ✓ 13 प्रतिशत

Question Number : 105 Question Id : 9662315513 Question Type : MCQ Option Shuffling : Yes Display Question Number : Yes Single Line Question Option : No Option Orientation : Vertical

Correct Marks : 1 Wrong Marks : 0.25

The rate of compound interest is 10 percent p.a. Find the ratio of increase in the amount from the 9th year to the 10th year.

Options :

1. ✗ 9:11
2. ✓ 10:11
3. ✗ 8:11
4. ✗ 12:11

Question Number : 105 Question Id : 9662315513 Question Type : MCQ Option Shuffling : Yes Display Question Number : Yes Single Line Question Option : No Option Orientation : Vertical

Correct Marks : 1 Wrong Marks : 0.25

10 प्रतिशत प्रति वर्ष चक्रवृद्धि ब्याज की दर से 9 वें वर्ष से 10 वें वर्ष तक की राशि में वृद्धि का अनुपात ज्ञात करें।

Options :

1. ✗ 9:11
2. ✓ 10:11
3. ✗ 8:11
4. ✗ 12:11

Question Number : 106 Question Id : 9662315514 Question Type : MCQ Option Shuffling : Yes Display Question Number : Yes  
Single Line Question Option : No Option Orientation : Vertical

Correct Marks : 1 Wrong Marks : 0.25

X takes a walk in the park every morning. One day, he was not fully fit, so his speed reduced by 20 percent and it took him 15 minutes more to finish the same distance. What is his original speed if the park covers a distance of 10 kms?

Options :

1. ✘ 12.5 km/h
2. ✘ 5 km/h
3. ✘ 8 km/h
4. ✔ 10 km/h

Question Number : 106 Question Id : 9662315514 Question Type : MCQ Option Shuffling : Yes Display Question Number : Yes  
Single Line Question Option : No Option Orientation : Vertical

Correct Marks : 1 Wrong Marks : 0.25

X रोजाना सुबह पार्क में टहलने जाता है। एक दिन, वह पूरी तरह से ठीक नहीं था, इसलिए उसकी गति 20 प्रतिशत कम हो गई और उसी दूरी को खत्म करने में उसे 15 मिनट अधिक लग गए। यदि पार्क 10 km की दूरी तय करता है तो उसकी मूल गति क्या है?

Options :

1. ✘ 12.5 km/h
2. ✘ 5 km/h
3. ✘ 8 km/h
4. ✔ 10 km/h

Question Number : 107 Question Id : 9662315515 Question Type : MCQ Option Shuffling : Yes Display Question Number : Yes  
Single Line Question Option : No Option Orientation : Vertical

Correct Marks : 1 Wrong Marks : 0.25

A man starts off on a journey. The first half of the journey's distance was covered at 10 km/h and the second half at 30 km/h. If he travels for 12 hours in total, how much distance did he cover?

Options :

1. ✘ 120 km
2. ✘ 150 km
3. ✔ 180 km
4. ✘ 240 km

Question Number : 107 Question Id : 9662315515 Question Type : MCQ Option Shuffling : Yes Display Question Number : Yes  
Single Line Question Option : No Option Orientation : Vertical

Correct Marks : 1 Wrong Marks : 0.25

एक आदमी यात्रा पर निकलता है। यात्रा की दूरी का पहला भाग 10 km/h और दूसरा आधा 30 km/h की गति से तय किया गया था। यदि वह कुल 12 घंटे की यात्रा करता है, तो उसने कितनी दूरी तय की?

Options :

1. ✘ 120 km
2. ✘ 150 km
3. ✔ 180 km
4. ✘ 240 km

Question Number : 108 Question Id : 9662315516 Question Type : MCQ Option Shuffling : Yes Display Question Number : Yes  
Single Line Question Option : No Option Orientation : Vertical

Correct Marks : 1 Wrong Marks : 0.25

Two cars practice racing on a circular race track. The time taken by them to cover 1 lap is 150 seconds and 240 seconds respectively. If they start together at noon, by the time they meet next, how many laps would the faster car have done more than the slower car?

Options :

1. ✘ 4
2. ✔ 3
3. ✘ 6
4. ✘ 5

Question Number : 108 Question Id : 9662315516 Question Type : MCQ Option Shuffling : Yes Display Question Number : Yes  
Single Line Question Option : No Option Orientation : Vertical

Correct Marks : 1 Wrong Marks : 0.25

दो कारें एक वृत्ताकार दौड़ ट्रैक पर दौड़ने का अभ्यास करती हैं। उनके द्वारा 1 लैप को आवृत करने के लिए लिया गया समय क्रमशः 150 सेकंड और 240 सेकंड है। यदि वे दोपहर में एक साथ शुरू करते हैं, जब तक वे मिलते हैं तब तक धीमी कार की तुलना में तेज कार कितनी अधिक लेप करती है?

Options :

1. ✘ 4
2. ✔ 3
3. ✘ 6
4. ✘ 5

Question Number : 109 Question Id : 9662315517 Question Type : MCQ Option Shuffling : Yes Display Question Number : Yes  
Single Line Question Option : No Option Orientation : Vertical

Correct Marks : 1 Wrong Marks : 0.25

M, N and O can complete a task in 20 days while working together. M and N can complete the task in 30 days. N and O can also complete the task in 30 days. In how many days can M alone complete the task?

Options :

1. ✔ 60
2. ✘ 66
3. ✘ 72
4. ✘ 75

Question Number : 109 Question Id : 9662315517 Question Type : MCQ Option Shuffling : Yes Display Question Number : Yes  
Single Line Question Option : No Option Orientation : Vertical

Correct Marks : 1 Wrong Marks : 0.25

M, N और O एक साथ काम करते हुए 20 दिनों में काम कर सकते हैं। M और N कार्य को 30 दिनों में कर सकते हैं। N और O भी 30 दिनों में काम कर सकते हैं।

Options :

1. ✔ 60
2. ✘ 66
3. ✘ 72
4. ✘ 75

Question Number : 110 Question Id : 9662315518 Question Type : MCQ Option Shuffling : Yes Display Question Number : Yes  
Single Line Question Option : No Option Orientation : Vertical

Correct Marks : 1 Wrong Marks : 0.25

A tank with capacity 100 litres has 3 openings with a pipe fit into each one of the openings. Two pipes fill in the water and 1 pipe draws out the water. The pipes that fill in the water fill it at the rate of 10 litres per minute and 8 litres per minute and the pipe that draws water does it at the rate of 20 litres per minute. After filling the tank using both the pipes for 5 minutes, the 3rd pipe is also opened up. Which of the following options holds true?

Options :

1. ✘ The tank gets filled up in next 5 minutes
2. ✔ The tank gets empty in next 45 minutes

3. ✘ The tank gets filled up in next 45 minutes
4. ✘ The tank gets empty in next 5 minutes

Question Number : 110 Question Id : 9662315518 Question Type : MCQ Option Shuffling : Yes Display Question Number : Yes Single Line Question Option : No Option Orientation : Vertical

Correct Marks : 1 Wrong Marks : 0.25

100 लीटर की क्षमता वाली एक टंकी में 3 छिद्र होते हैं, जिसमें से प्रत्येक में एक पाइप फिट होता है। दो पाइप पानी भरते हैं और 1 पाइप पानी निकालता है। पानी भरने वाले पाइप इसे 10 लीटर प्रति मिनट और 8 लीटर प्रति मिनट की दर से भरते हैं और जो पाइप पानी खींचता है वह इसे 20 लीटर प्रति मिनट की दर से करता है। 5 मिनट के लिए दोनों पाइपों का उपयोग करके टंकी को भरने के बाद, तीसरा पाइप भी खोला जाता है। निम्नलिखित में से कौन सा विकल्प सही है?

Options :

1. ✘ टंकी अगले 5 मिनट में भर जाएगी
2. ✔ टंकी 45 मिनट में खाली हो जाएगी
3. ✘ टंकी 45 मिनट में भर जाएगी
4. ✘ टंकी पांच मिनट में खाली हो जाएगी

Question Number : 111 Question Id : 9662315519 Question Type : MCQ Option Shuffling : Yes Display Question Number : Yes Single Line Question Option : No Option Orientation : Vertical

Correct Marks : 1 Wrong Marks : 0.25

A task was supposed to be completed by 12 men in 8 days, but due to an urgency, few more people were employed to finish the work in 6 days. How many more people were employed?

Options :

1. ✘ 2
2. ✔ 4
3. ✘ 8
4. ✘ 6

Question Number : 111 Question Id : 9662315519 Question Type : MCQ Option Shuffling : Yes Display Question Number : Yes Single Line Question Option : No Option Orientation : Vertical

Correct Marks : 1 Wrong Marks : 0.25

8 दिनों में 12 पुरुषों द्वारा एक कार्य पूरा किया जाना था। लेकिन एक आग्रह के कारण, 6 दिनों में काम खत्म करने के लिए कुछ और लोगों को नियुक्त किया गया। कितने और लोग कार्यरत हुए?

Options :

1. ✘ 2
2. ✔ 4
3. ✘ 8
4. ✘ 6

Question Number : 112 Question Id : 9662315520 Question Type : MCQ Option Shuffling : Yes Display Question Number : Yes Single Line Question Option : No Option Orientation : Vertical

Correct Marks : 1 Wrong Marks : 0.25

A trapezium plot has an area of 250 sq m. The height measures 20 m and one of the parallel sides is 50 percent greater than the other one. Find the smaller parallel side.

Options :

1. ✘ 5 m
2. ✔ 10 m
3. ✘ 15 m
4. ✘ 20 m

Question Number : 112 Question Id : 9662315520 Question Type : MCQ Option Shuffling : Yes Display Question Number : Yes  
Single Line Question Option : No Option Orientation : Vertical

Correct Marks : 1 Wrong Marks : 0.25

एक समलम्ब प्लॉट का क्षेत्रफल 250 sq m है ऊँचाई 20 m मापता है और समानांतर पक्षों में से एक दूसरे की तुलना में 50 प्रतिशत अधिक है। छोटे समानांतर पक्ष को ज्ञात करें।

Options :

1. ✘ 5 m
2. ✔ 10 m
3. ✘ 15 m
4. ✘ 20 m

Question Number : 113 Question Id : 9662315521 Question Type : MCQ Option Shuffling : Yes Display Question Number : Yes  
Single Line Question Option : No Option Orientation : Vertical

Correct Marks : 1 Wrong Marks : 0.25

A cuboid has sides measuring 144 cm, 12 cm and  $3\sqrt{3}$  cm. It is reformed into a cube. Find the diagonal of the cube.

Options :

1. ✘ 33 cm
2. ✘ 34.5 cm
3. ✔ 36 cm
4. ✘ 42 cm

Question Number : 113 Question Id : 9662315521 Question Type : MCQ Option Shuffling : Yes Display Question Number : Yes  
Single Line Question Option : No Option Orientation : Vertical

Correct Marks : 1 Wrong Marks : 0.25

एक घनाभ की भुजाएँ 144 cm, 12 cm और  $3\sqrt{3}$  cm हैं। इसे घन में सुधारा जाता है। घन का विकर्ण ज्ञात करें।

Options :

1. ✘ 33 cm
2. ✘ 34.5 cm
3. ✔ 36 cm
4. ✘ 42 cm

Question Number : 114 Question Id : 9662315522 Question Type : MCQ Option Shuffling : Yes Display Question Number : Yes  
Single Line Question Option : No Option Orientation : Vertical

Correct Marks : 1 Wrong Marks : 0.25

The ratio of the base and height of a right triangle is 3:4 and the area is 150 sq cm. Find the perimeter of the triangle.

Options :

1. ✘ 50 cm
2. ✘ 55 cm
3. ✘ 57.5 cm
4. ✔ 60 cm

Question Number : 114 Question Id : 9662315522 Question Type : MCQ Option Shuffling : Yes Display Question Number : Yes  
Single Line Question Option : No Option Orientation : Vertical

Correct Marks : 1 Wrong Marks : 0.25

एक समकोण त्रिभुज के आधार और ऊँचाई का अनुपात 3:4 है और क्षेत्रफल 150 sq cm है। त्रिभुज का परिमाप ज्ञात करें।

Options :

1. ✘ 50 cm
2. ✘ 55 cm



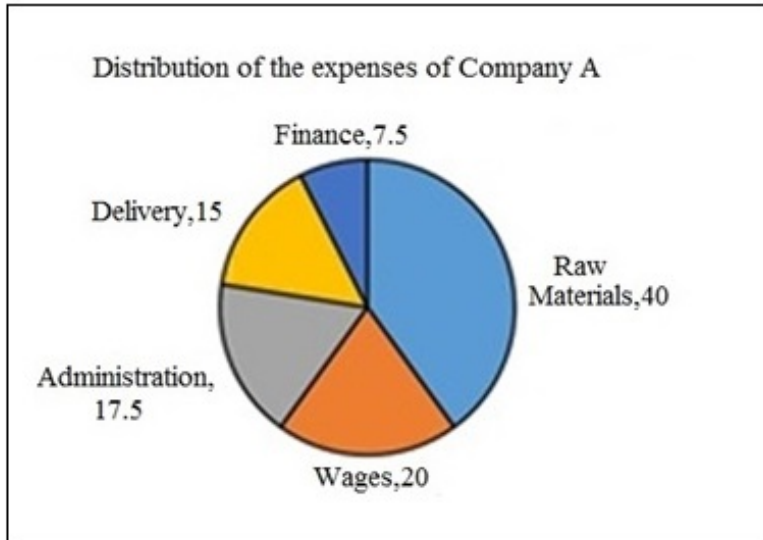
3. ✘ 57.5 cm

4. ✔ 60 cm

Question Number : 115 Question Id : 9662315523 Question Type : MCQ Option Shuffling : Yes Display Question Number : Yes Single Line Question Option : No Option Orientation : Vertical

Correct Marks : 1 Wrong Marks : 0.25

The pie chart depicts the allocation of the revenue towards the expenses of a particular company. The company's sales are Rs 500000 and the company earns 25 percent on its cost price. What is the cost of raw materials for the company? The numbers in the pie chart are in proportion to the company's expenses.



Options :

1. ✘ Rs 80000

2. ✘ Rs 100000

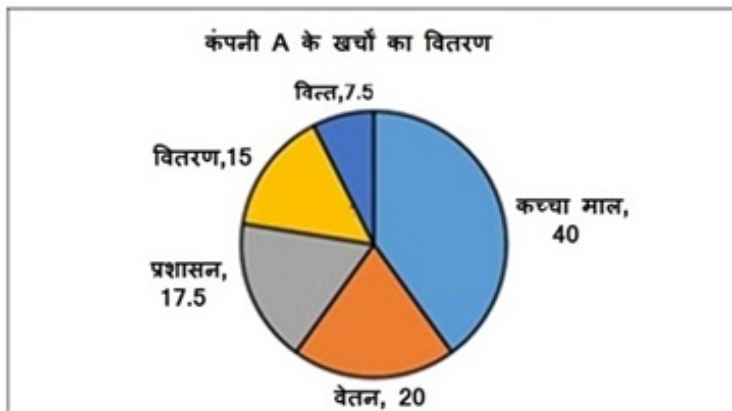
3. ✔ Rs 160000

4. ✘ Rs 120000

Question Number : 115 Question Id : 9662315523 Question Type : MCQ Option Shuffling : Yes Display Question Number : Yes Single Line Question Option : No Option Orientation : Vertical

Correct Marks : 1 Wrong Marks : 0.25

पाई चार्ट में किसी विशेष कंपनी के खर्चों के लिए राजस्व के आवंटन को दर्शाया गया है। कंपनी की बिक्री 500000 रुपए है और कंपनी अपनी लागत मूल्य पर 25 प्रतिशत कमाती है। कंपनी के लिए कच्चे माल की लागत क्या है? पाई चार्ट में संख्या कंपनी के खर्च के अनुपात में है।



Options :

1. ✘ 80000 रुपए

2. ✘ 100000 रुपए

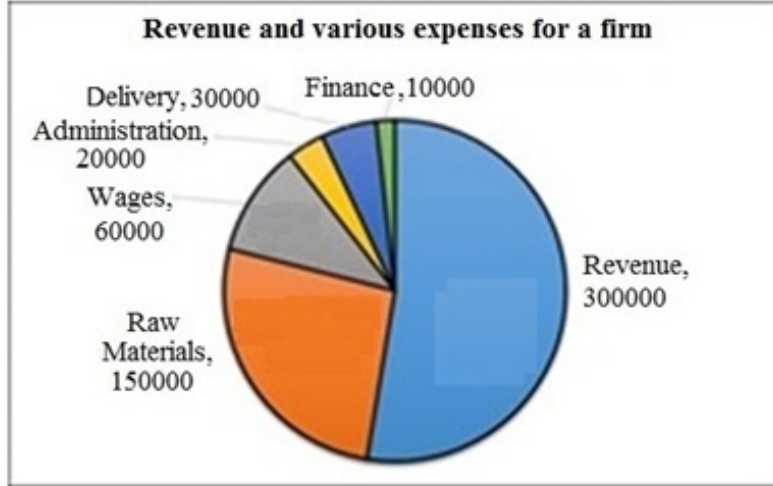
3. ✔ 160000 रुपए

4. ✖ 120000 रूपए

Question Number : 116 Question Id : 9662315524 Question Type : MCQ Option Shuffling : Yes Display Question Number : Yes Single Line Question Option : No Option Orientation : Vertical

Correct Marks : 1 Wrong Marks : 0.25

The pie chart shows in rupees the revenue and various expenses for a firm for the current financial year. The profit margin is assumed to be increased by 20 percent using the projections for the upcoming financial year. What is the projected profit margin?



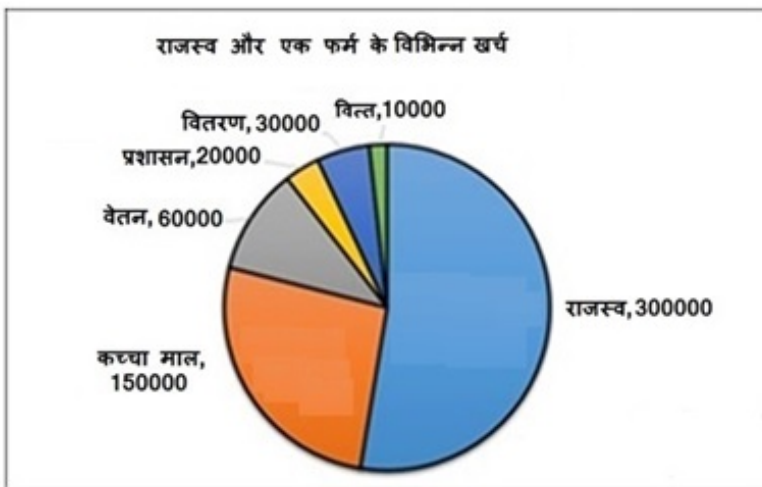
Options :

1. ✖ 20 percent
2. ✔ 12 percent
3. ✖ 10 percent
4. ✖ 25 percent

Question Number : 116 Question Id : 9662315524 Question Type : MCQ Option Shuffling : Yes Display Question Number : Yes Single Line Question Option : No Option Orientation : Vertical

Correct Marks : 1 Wrong Marks : 0.25

पाई चार्ट वर्तमान वित्तीय वर्ष के लिए एक फर्म के रुपये में राजस्व और विभिन्न खर्चों को दर्शाता है। आगामी वित्तीय वर्ष के अनुमानों का उपयोग करते हुए लाभ मार्जिन को 20 प्रतिशत तक बढ़ाया जाना माना जाता है। अनुमानित लाभ मार्जिन क्या है?



Options :

1. ✖ 20 प्रतिशत
2. ✔ 12 प्रतिशत
3. ✖ 10 प्रतिशत
4. ✖ 25 प्रतिशत

Question Number : 117 Question Id : 9662315525 Question Type : MCQ Option Shuffling : Yes Display Question Number : Yes  
Single Line Question Option : No Option Orientation : Vertical

Correct Marks : 1 Wrong Marks : 0.25

The table shows the various annual expenses of a firm from 2014-2018. The revenues of 2016 and 2018 are Rs 2400000 and Rs 4500000 respectively. By how much is the profit margin of 2018 is more than the profit margin of 2016?

Year	Particulars				
	Raw Materials	Wages	Administration	Delivery	Finance
2014	500000	150000	400000	200000	200000
2015	900000	200000	400000	250000	250000
2016	450000	225000	625000	250000	250000
2017	600000	200000	400000	250000	400000
2018	750000	250000	500000	300000	450000

Options :

- ✘ 80 percent
- ✘ 120 percent
- ✔ 100 percent
- ✘ 75 percent

Question Number : 117 Question Id : 9662315525 Question Type : MCQ Option Shuffling : Yes Display Question Number : Yes  
Single Line Question Option : No Option Orientation : Vertical

Correct Marks : 1 Wrong Marks : 0.25

तालिका 2014 से 2018 तक एक फर्म के विभिन्न वार्षिक खर्चों को दर्शाती है। 2016 और 2018 का राजस्व क्रमशः 2400000 रुपए और 4500000 रुपए है। 2018 का लाभ मार्जिन 2016 के लाभ मार्जिन से कितना अधिक है?

वर्ष	विवरण				
	कच्चा माल	वेतन	प्रशासन	वितरण	वित्त
2014	500000	150000	400000	200000	200000
2015	900000	200000	400000	250000	250000
2016	450000	225000	625000	250000	250000
2017	600000	200000	400000	250000	400000
2018	750000	250000	500000	300000	450000

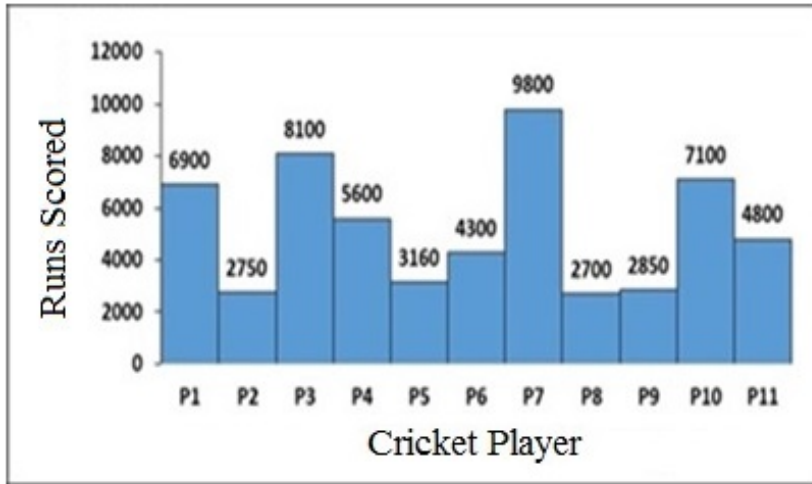
Options :

- ✘ 80 प्रतिशत
- ✘ 120 प्रतिशत
- ✔ 100 प्रतिशत
- ✘ 75 प्रतिशत

Question Number : 118 Question Id : 9662315526 Question Type : MCQ Option Shuffling : Yes Display Question Number : Yes  
Single Line Question Option : No Option Orientation : Vertical

Correct Marks : 1 Wrong Marks : 0.25

The histogram shows the runs scored by eleven cricket players named P1,P2,P3,P4, ... P11 in their respective careers which lasted for 9 years. Runs scored by which player are the same as the difference between the maximum and minimum runs scored?



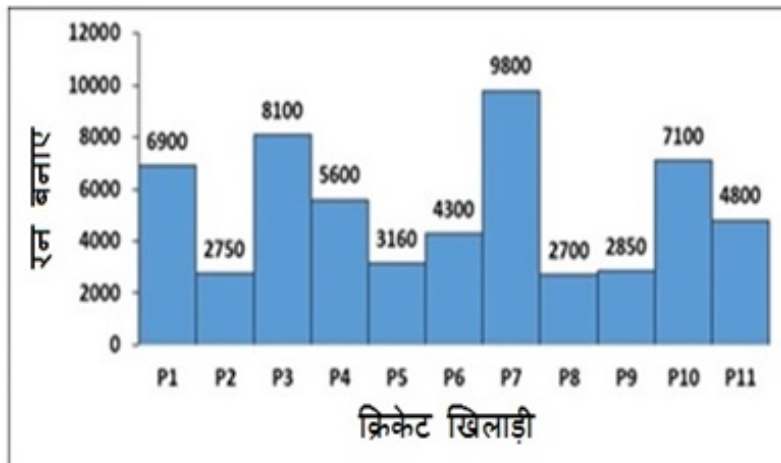
Options :

1. ✘ P1
2. ✘ P3
3. ✘ P4
4. ✔ P10

Question Number : 118 Question Id : 9662315526 Question Type : MCQ Option Shuffling : Yes Display Question Number : Yes Single Line Question Option : No Option Orientation : Vertical

Correct Marks : 1 Wrong Marks : 0.25

आयतचित्र अपने संबंधित करियर में P1, P2, P3, P4, ... P11 नामक ग्यारह क्रिकेट खिलाड़ियों द्वारा बनाए गए रनों को दर्शाता है जो (करियर) 9 वर्षों तक चला। किस खिलाड़ी ने उतने रन बनाए हैं जो अधिकतम और न्यूनतम रन के बीच के अंतर के समान हैं?



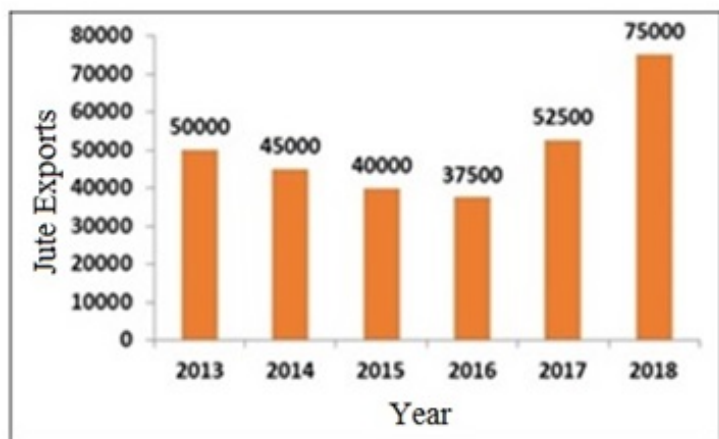
Options :

1. ✘ P1
2. ✘ P3
3. ✘ P4
4. ✔ P10

Question Number : 119 Question Id : 9662315527 Question Type : MCQ Option Shuffling : Yes Display Question Number : Yes Single Line Question Option : No Option Orientation : Vertical

Correct Marks : 1 Wrong Marks : 0.25

The following bar chart shows the quantity (in million kg) of jute exported by India from 2013–2018. By how much is the average export from 2016–2018 greater than the average export in the given period?



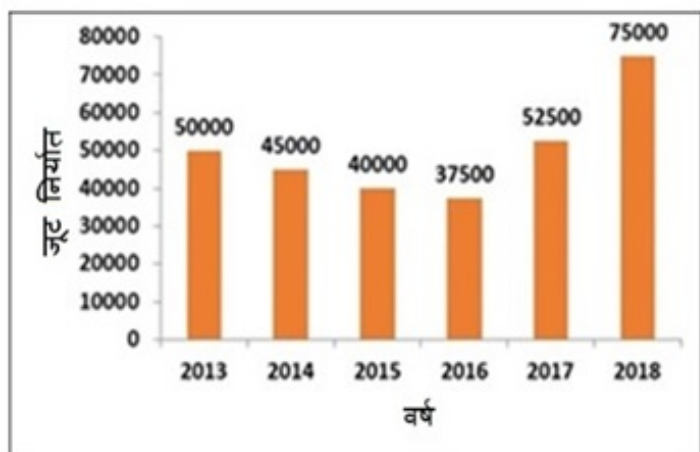
Options :

- ✓ 10 percent
- ✗ 15 percent
- ✗ 5 percent
- ✗ 6.67 percent

Question Number : 119 Question Id : 9662315527 Question Type : MCQ Option Shuffling : Yes Display Question Number : Yes Single Line Question Option : No Option Orientation : Vertical

Correct Marks : 1 Wrong Marks : 0.25

निम्न बार चार्ट 2013–2018 में भारत द्वारा निर्यात जूट की मात्रा (मिलियन kg में) दर्शाता है। दी गई अवधि में औसत निर्यात की तुलना में 2016–2018 का औसत निर्यात कितना अधिक है?



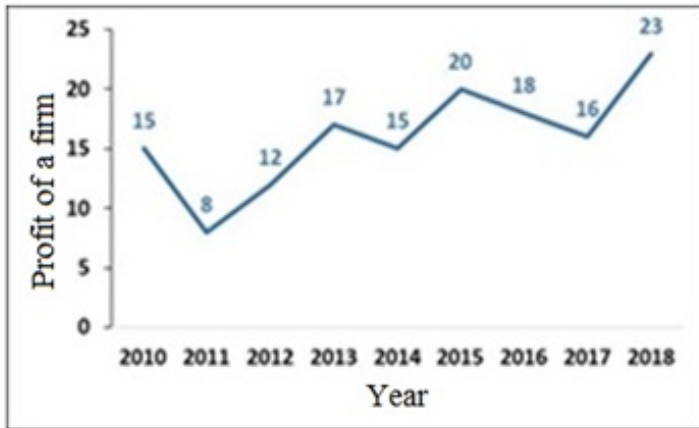
Options :

- ✓ 10 प्रतिशत
- ✗ 15 प्रतिशत
- ✗ 5 प्रतिशत
- ✗ 6.67 प्रतिशत

Question Number : 120 Question Id : 9662315528 Question Type : MCQ Option Shuffling : Yes Display Question Number : Yes Single Line Question Option : No Option Orientation : Vertical

Correct Marks : 1 Wrong Marks : 0.25

The line chart shows the profit (in thousand rupees) of a firm for years 2010-2018. Which year has exactly the same profits as the average profits of the given period?



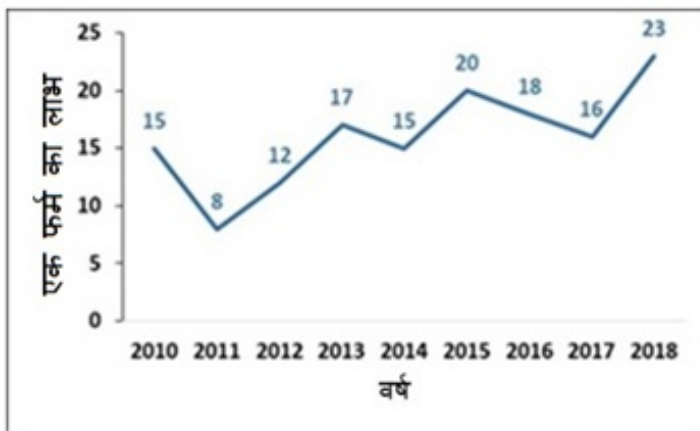
Options :

- ✘ 2013
- ✘ 2014
- ✘ 2016
- ✔ 2017

Question Number : 120 Question Id : 9662315528 Question Type : MCQ Option Shuffling : Yes Display Question Number : Yes Single Line Question Option : No Option Orientation : Vertical

Correct Marks : 1 Wrong Marks : 0.25

लाइन चार्ट वर्ष 2010-2018 के लिए एक फर्म के लाभ (हजार रुपए में) को दर्शाता है। किस वर्ष में दिए गए अवधि के औसत लाभ के समान ही लाभ है?



Options :

- ✘ 2013
- ✘ 2014
- ✘ 2016
- ✔ 2017

General English1

Group Number :	7
Group Id :	96623170
Group Maximum Duration :	0
Group Minimum Duration :	0
Revisit allowed for view? :	No
Revisit allowed for edit? :	No

<b>Break time:</b>	0
<b>Group Marks:</b>	20
<b>Revisit allowed for group Instructions? :</b>	Yes
<b>Maximum Instruction Time:</b>	0
<b>Minimum Instruction Time:</b>	0

General English1

<b>Section Id :</b>	966231185
<b>Section Number :</b>	1
<b>Section type :</b>	Online
<b>Mandatory or Optional:</b>	Mandatory
<b>Number of Questions:</b>	20
<b>Number of Questions to be attempted:</b>	20
<b>Section Marks:</b>	20
<b>Display Number Panel:</b>	Yes
<b>Group All Questions:</b>	No

<b>Sub-Section Number:</b>	1
<b>Sub-Section Id:</b>	966231193
<b>Question Shuffling Allowed :</b>	Yes

**Question Number : 121 Question Id : 9662315529 Question Type : MCQ Option Shuffling : Yes Display Question Number : Yes Single Line Question Option : No Option Orientation : Vertical**

**Correct Marks : 1 Wrong Marks : 0.25**

In the following statement, one part of the sentence may have an error. Find out which part of the sentence has an error and click the button corresponding to it. If the sentence is free from error, select the "No error" option.

(A) Atul sanded / (B) the wood with / (C) course sandpaper. / (D) No error

**Options :**

1. ✘ A
2. ✘ B
3. ✔ C
4. ✘ D

**Question Number : 121 Question Id : 9662315529 Question Type : MCQ Option Shuffling : Yes Display Question Number : Yes Single Line Question Option : No Option Orientation : Vertical**

**Correct Marks : 1 Wrong Marks : 0.25**

In the following statement, one part of the sentence may have an error. Find out which part of the sentence has an error and click the button corresponding to it. If the sentence is free from error, select the "No error" option.

(A) Atul sanded / (B) the wood with / (C) course sandpaper. / (D) No error

**Options :**

1. ✘ A
2. ✘ B
3. ✔ C
4. ✘ D



Question Number : 122 Question Id : 9662315530 Question Type : MCQ Option Shuffling : Yes Display Question Number : Yes  
Single Line Question Option : No Option Orientation : Vertical

Correct Marks : 1 Wrong Marks : 0.25

In the following statement, one part of the sentence may have an error. Find out which part of the sentence has an error and click the button corresponding to it. If the sentence is free from error, select the "No error" option.

(A) The shelf is / (B) to high for her / (C) to reach. / (D) No error

Options :

1. ✘ A
2. ✔ B
3. ✘ C
4. ✘ D

Question Number : 122 Question Id : 9662315530 Question Type : MCQ Option Shuffling : Yes Display Question Number : Yes  
Single Line Question Option : No Option Orientation : Vertical

Correct Marks : 1 Wrong Marks : 0.25

In the following statement, one part of the sentence may have an error. Find out which part of the sentence has an error and click the button corresponding to it. If the sentence is free from error, select the "No error" option.

(A) The shelf is / (B) to high for her / (C) to reach. / (D) No error

Options :

1. ✘ A
2. ✔ B
3. ✘ C
4. ✘ D

Question Number : 123 Question Id : 9662315531 Question Type : MCQ Option Shuffling : Yes Display Question Number : Yes  
Single Line Question Option : No Option Orientation : Vertical

Correct Marks : 1 Wrong Marks : 0.25

In the following statement, one part of the sentence may have an error. Find out which part of the sentence has an error and click the button corresponding to it. If the sentence is free from error, select the "No error" option.

(A) Tommy's paw was / (B) wet from the dew / (C) on the lawn. / (D) No error

Options :

1. ✘ A
2. ✘ B
3. ✘ C
4. ✔ D

Question Number : 123 Question Id : 9662315531 Question Type : MCQ Option Shuffling : Yes Display Question Number : Yes  
Single Line Question Option : No Option Orientation : Vertical

Correct Marks : 1 Wrong Marks : 0.25

In the following statement, one part of the sentence may have an error. Find out which part of the sentence has an error and click the button corresponding to it. If the sentence is free from error, select the "No error" option.

(A) Tommy's paw was / (B) wet from the dew / (C) on the lawn. / (D) No error

Options :

1. ✘ A



2. ✘ B
3. ✘ C
4. ✔ D

**Question Number : 124 Question Id : 9662315532 Question Type : MCQ Option Shuffling : Yes Display Question Number : Yes Single Line Question Option : No Option Orientation : Vertical**

**Correct Marks : 1 Wrong Marks : 0.25**

In the following statement, one part of the sentence may have an error. Find out which part of the sentence has an error and click the button corresponding to it. If the sentence is free from error, select the "No error" option.

(A) Seema escaped to / (B) the library for some / (C) peace and quietly. / (D) No error

**Options :**

1. ✘ A
2. ✘ B
3. ✔ C
4. ✘ D

**Question Number : 124 Question Id : 9662315532 Question Type : MCQ Option Shuffling : Yes Display Question Number : Yes Single Line Question Option : No Option Orientation : Vertical**

**Correct Marks : 1 Wrong Marks : 0.25**

In the following statement, one part of the sentence may have an error. Find out which part of the sentence has an error and click the button corresponding to it. If the sentence is free from error, select the "No error" option.

(A) Seema escaped to / (B) the library for some / (C) peace and quietly. / (D) No error

**Options :**

1. ✘ A
2. ✘ B
3. ✔ C
4. ✘ D

**Question Number : 125 Question Id : 9662315533 Question Type : MCQ Option Shuffling : Yes Display Question Number : Yes Single Line Question Option : No Option Orientation : Vertical**

**Correct Marks : 1 Wrong Marks : 0.25**

In the following statement, one part of the sentence may have an error. Find out which part of the sentence has an error and click the button corresponding to it. If the sentence is free from error, select the "No error" option.

(A) Sakshi had been / (B) excited from / (C) she got up. / (D) No error

**Options :**

1. ✘ A
2. ✔ B
3. ✘ C
4. ✘ D

**Question Number : 125 Question Id : 9662315533 Question Type : MCQ Option Shuffling : Yes Display Question Number : Yes Single Line Question Option : No Option Orientation : Vertical**

**Correct Marks : 1 Wrong Marks : 0.25**

In the following statement, one part of the sentence may have an error. Find out which part of the sentence has an error and click the button corresponding to it. If the sentence is free from error, select the "No error" option.

(A) Sakshi had been/ (B) excited from/ (C) she got up./ (D) No error

Options :

1. ✘ A
2. ✔ B
3. ✘ C
4. ✘ D

Question Number : 126 Question Id : 9662315534 Question Type : MCQ Option Shuffling : Yes Display Question Number : Yes Single Line Question Option : No Option Orientation : Vertical

Correct Marks : 1 Wrong Marks : 0.25

Select the word segment that substitutes (replaces) the bracketed word segment correctly and completes the sentence meaningfully.

Rama (is living) in the town since 1997.

Options :

1. ✔ has been living
2. ✘ had lived
3. ✘ has living
4. ✘ No correction

Question Number : 126 Question Id : 9662315534 Question Type : MCQ Option Shuffling : Yes Display Question Number : Yes Single Line Question Option : No Option Orientation : Vertical

Correct Marks : 1 Wrong Marks : 0.25

Select the word segment that substitutes (replaces) the bracketed word segment correctly and completes the sentence meaningfully.

Rama (is living) in the town since 1997.

Options :

1. ✔ has been living
2. ✘ had lived
3. ✘ has living
4. ✘ No correction

Question Number : 127 Question Id : 9662315535 Question Type : MCQ Option Shuffling : Yes Display Question Number : Yes Single Line Question Option : No Option Orientation : Vertical

Correct Marks : 1 Wrong Marks : 0.25

Select the word segment that substitutes (replaces) the bracketed word segment correctly and completes the sentence meaningfully.

There is no (deny) the fact.

Options :

1. ✘ denial
2. ✔ denying
3. ✘ was denied
4. ✘ No correction

Question Number : 127 Question Id : 9662315535 Question Type : MCQ Option Shuffling : Yes Display Question Number : Yes  
Single Line Question Option : No Option Orientation : Vertical

Correct Marks : 1 Wrong Marks : 0.25

Select the word segment that substitutes (replaces) the bracketed word segment correctly and completes the sentence meaningfully.

There is no (deny) the fact.

Options :

1. ✘ denial
2. ✔ denying
3. ✘ was denied
4. ✘ No correction

Question Number : 128 Question Id : 9662315536 Question Type : MCQ Option Shuffling : Yes Display Question Number : Yes  
Single Line Question Option : No Option Orientation : Vertical

Correct Marks : 1 Wrong Marks : 0.25

Select the word segment that substitutes (replaces) the bracketed word segment correctly and completes the sentence meaningfully.

No sooner did Simran (reached when) the bus left.

Options :

1. ✔ reach than
2. ✘ reached then
3. ✘ reach when
4. ✘ No correction

Question Number : 128 Question Id : 9662315536 Question Type : MCQ Option Shuffling : Yes Display Question Number : Yes  
Single Line Question Option : No Option Orientation : Vertical

Correct Marks : 1 Wrong Marks : 0.25

Select the word segment that substitutes (replaces) the bracketed word segment correctly and completes the sentence meaningfully.

No sooner did Simran (reached when) the bus left.

Options :

1. ✔ reach than
2. ✘ reached then
3. ✘ reach when
4. ✘ No correction

Question Number : 129 Question Id : 9662315537 Question Type : MCQ Option Shuffling : Yes Display Question Number : Yes  
Single Line Question Option : No Option Orientation : Vertical

Correct Marks : 1 Wrong Marks : 0.25

Select the word segment that substitutes (replaces) the bracketed word segment correctly and completes the sentence meaningfully.

The crowd (gathered) to protest against the law.

Options :

1. ✘ gathering
2. ✘ gather
3. ✘ has gathering
4. ✔ No correction

Question Number : 129 Question Id : 9662315537 Question Type : MCQ Option Shuffling : Yes Display Question Number : Yes  
Single Line Question Option : No Option Orientation : Vertical

Correct Marks : 1 Wrong Marks : 0.25

Select the word segment that substitutes (replaces) the bracketed word segment correctly and completes the sentence meaningfully.

The crowd (gathered) to protest against the law.

Options :

- ✘ gathering
- ✘ gather
- ✘ has gathering
- ✔ No correction

Question Number : 130 Question Id : 9662315538 Question Type : MCQ Option Shuffling : Yes Display Question Number : Yes  
Single Line Question Option : No Option Orientation : Vertical

Correct Marks : 1 Wrong Marks : 0.25

Select the word segment that substitutes (replaces) the bracketed word segment correctly and completes the sentence meaningfully.

Smoking tobacco can (adversely affect) your lungs and blood flow.

Options :

- ✘ adverse affected
- ✘ adversely effect
- ✘ adverse effected
- ✔ No correction

Question Number : 130 Question Id : 9662315538 Question Type : MCQ Option Shuffling : Yes Display Question Number : Yes  
Single Line Question Option : No Option Orientation : Vertical

Correct Marks : 1 Wrong Marks : 0.25

Select the word segment that substitutes (replaces) the bracketed word segment correctly and completes the sentence meaningfully.

Smoking tobacco can (adversely affect) your lungs and blood flow.

Options :

- ✘ adverse affected
- ✘ adversely effect
- ✘ adverse effected
- ✔ No correction

Question Number : 131 Question Id : 9662315539 Question Type : MCQ Option Shuffling : Yes Display Question Number : Yes  
Single Line Question Option : No Option Orientation : Vertical

Correct Marks : 1 Wrong Marks : 0.25

Select the word that fills in the blank correctly and completes the sentence meaningfully.

They were still \_\_\_\_\_ for Karishma to arrive.

Options :

- ✘ wait
- ✘ waited
- ✔ waiting
- ✘ have wait

Question Number : 131 Question Id : 9662315539 Question Type : MCQ Option Shuffling : Yes Display Question Number : Yes  
Single Line Question Option : No Option Orientation : Vertical

Correct Marks : 1 Wrong Marks : 0.25

Select the word that fills in the blank correctly and completes the sentence meaningfully.

They were still \_\_\_\_\_ for Karishma to arrive.

Options :

1. ✘ wait
2. ✘ waited
3. ✔ waiting
4. ✘ have wait

Question Number : 132 Question Id : 9662315540 Question Type : MCQ Option Shuffling : Yes Display Question Number : Yes  
Single Line Question Option : No Option Orientation : Vertical

Correct Marks : 1 Wrong Marks : 0.25

Select the word that fills in the blank correctly and completes the sentence meaningfully.

What we need to do is not fool ourselves and remain \_\_\_\_\_ about the issue of doping in baseball.

Options :

1. ✘ scurrilous
2. ✔ sanctimonious
3. ✘ sanguine
4. ✘ sagacity

Question Number : 132 Question Id : 9662315540 Question Type : MCQ Option Shuffling : Yes Display Question Number : Yes  
Single Line Question Option : No Option Orientation : Vertical

Correct Marks : 1 Wrong Marks : 0.25

Select the word that fills in the blank correctly and completes the sentence meaningfully.

What we need to do is not fool ourselves and remain \_\_\_\_\_ about the issue of doping in baseball.

Options :

1. ✘ scurrilous
2. ✔ sanctimonious
3. ✘ sanguine
4. ✘ sagacity

Question Number : 133 Question Id : 9662315541 Question Type : MCQ Option Shuffling : Yes Display Question Number : Yes  
Single Line Question Option : No Option Orientation : Vertical

Correct Marks : 1 Wrong Marks : 0.25

Select the word that fills in the blank correctly and completes the sentence meaningfully.

The judge acquitted the criminal \_\_\_\_\_ theft.

Options :

1. ✔ of
2. ✘ at
3. ✘ in
4. ✘ on

Question Number : 133 Question Id : 9662315541 Question Type : MCQ Option Shuffling : Yes Display Question Number : Yes  
Single Line Question Option : No Option Orientation : Vertical

Correct Marks : 1 Wrong Marks : 0.25

Select the word that fills in the blank correctly and completes the sentence meaningfully.

The judge acquitted the criminal \_\_\_\_\_ theft.

Options :

1. ✓ of
2. ✗ at
3. ✗ in
4. ✗ on

Question Number : 134 Question Id : 9662315542 Question Type : MCQ Option Shuffling : Yes Display Question Number : Yes  
Single Line Question Option : No Option Orientation : Vertical

Correct Marks : 1 Wrong Marks : 0.25

Select the word that fills in the blank correctly and completes the sentence meaningfully.

Love is \_\_\_\_\_ to blind man.

Options :

1. ✗ compare
2. ✓ compared
3. ✗ comparing
4. ✗ comparison

Question Number : 134 Question Id : 9662315542 Question Type : MCQ Option Shuffling : Yes Display Question Number : Yes  
Single Line Question Option : No Option Orientation : Vertical

Correct Marks : 1 Wrong Marks : 0.25

Select the word that fills in the blank correctly and completes the sentence meaningfully.

Love is \_\_\_\_\_ to blind man.

Options :

1. ✗ compare
2. ✓ compared
3. ✗ comparing
4. ✗ comparison

Question Number : 135 Question Id : 9662315543 Question Type : MCQ Option Shuffling : Yes Display Question Number : Yes  
Single Line Question Option : No Option Orientation : Vertical

Correct Marks : 1 Wrong Marks : 0.25

Select the word that fills in the blank correctly and completes the sentence meaningfully.

Anita \_\_\_\_\_ herself to dance.

Options :

1. ✗ desirous
2. ✗ disgusted
3. ✗ disliked
4. ✓ devoted

Question Number : 135 Question Id : 9662315543 Question Type : MCQ Option Shuffling : Yes Display Question Number : Yes  
Single Line Question Option : No Option Orientation : Vertical

Correct Marks : 1 Wrong Marks : 0.25

Select the word that fills in the blank correctly and completes the sentence meaningfully.

Anita \_\_\_\_\_ herself to dance.

Options :

1. ✘ desirous
2. ✘ disgusted
3. ✘ disliked
4. ✔ devoted

Question Number : 136 Question Id : 9662315544 Question Type : MCQ Option Shuffling : Yes Display Question Number : Yes  
Single Line Question Option : No Option Orientation : Vertical

Correct Marks : 1 Wrong Marks : 0.25

Select the word that fills in the blank correctly and completes the sentence meaningfully.

They \_\_\_\_\_ hundred rupees to the team fund.

Options :

1. ✘ contribute
2. ✘ contribution
3. ✔ contributed
4. ✘ contributing

Question Number : 136 Question Id : 9662315544 Question Type : MCQ Option Shuffling : Yes Display Question Number : Yes  
Single Line Question Option : No Option Orientation : Vertical

Correct Marks : 1 Wrong Marks : 0.25

Select the word that fills in the blank correctly and completes the sentence meaningfully.

They \_\_\_\_\_ hundred rupees to the team fund.

Options :

1. ✘ contribute
2. ✘ contribution
3. ✔ contributed
4. ✘ contributing

Question Number : 137 Question Id : 9662315545 Question Type : MCQ Option Shuffling : Yes Display Question Number : Yes  
Single Line Question Option : No Option Orientation : Vertical

Correct Marks : 1 Wrong Marks : 0.25

Select the word that fills in the blank correctly and completes the sentence meaningfully.

Rakesh's \_\_\_\_\_ manner betrayed the fear he felt at the moment.

Options :

1. ✘ temerity
2. ✘ tacit
3. ✔ timorous
4. ✘ tenuous

Question Number : 137 Question Id : 9662315545 Question Type : MCQ Option Shuffling : Yes Display Question Number : Yes  
Single Line Question Option : No Option Orientation : Vertical

Correct Marks : 1 Wrong Marks : 0.25

Select the word that fills in the blank correctly and completes the sentence meaningfully.

Rakesh's \_\_\_\_\_ manner betrayed the fear he felt at the moment.

Options :

1. ✘ temerity
2. ✘ tacit
3. ✔ timorous
4. ✘ tenuous

Question Number : 138 Question Id : 9662315546 Question Type : MCQ Option Shuffling : Yes Display Question Number : Yes  
Single Line Question Option : No Option Orientation : Vertical

Correct Marks : 1 Wrong Marks : 0.25

Select the word that fills in the blank correctly and completes the sentence meaningfully.

The heavy meal and the overheated room made us all \_\_\_\_\_ and indifferent to the speaker.

Options :

1. ✔ somnolent
2. ✘ solicitous
3. ✘ servile
4. ✘ spurious

Question Number : 138 Question Id : 9662315546 Question Type : MCQ Option Shuffling : Yes Display Question Number : Yes  
Single Line Question Option : No Option Orientation : Vertical

Correct Marks : 1 Wrong Marks : 0.25

Select the word that fills in the blank correctly and completes the sentence meaningfully.

The heavy meal and the overheated room made us all \_\_\_\_\_ and indifferent to the speaker.

Options :

1. ✔ somnolent
2. ✘ solicitous
3. ✘ servile
4. ✘ spurious

Question Number : 139 Question Id : 9662315547 Question Type : MCQ Option Shuffling : Yes Display Question Number : Yes  
Single Line Question Option : No Option Orientation : Vertical

Correct Marks : 1 Wrong Marks : 0.25

The questions below consist of a set of labelled parts of a sentence. Out of four options given, select the most logical order of the parts which form a coherent sentence.

The Indian elementary:

P : and structured

Q : is far less rigid

R : school system

S : than the American system

Options :

1. ✘ PQRS
2. ✔ RQPS
3. ✘ SPRQ
4. ✘ QRSP

Question Number : 139 Question Id : 9662315547 Question Type : MCQ Option Shuffling : Yes Display Question Number : Yes  
Single Line Question Option : No Option Orientation : Vertical

Correct Marks : 1 Wrong Marks : 0.25



The questions below consist of a set of labelled parts of a sentence. Out of four options given, select the most logical order of the parts which form a coherent sentence.

The Indian elementary:

P : and structured

Q : is far less rigid

R : school system

S : than the American system

**Options :**

1. ✘ PQRS

2. ✔ RQPS

3. ✘ SPRQ

4. ✘ QRSP

**Question Number : 140 Question Id : 9662315548 Question Type : MCQ Option Shuffling : Yes Display Question Number : Yes Single Line Question Option : No Option Orientation : Vertical**

**Correct Marks : 1 Wrong Marks : 0.25**

The questions below consist of a set of labelled parts of a sentence. Out of four options given, select the most logical order of the parts which form a coherent sentence.

Hiring outside consultants:

P : among top-ranking

Q : companies and the hype will

R : is just a status quo

S : probably not last for long

**Options :**

1. ✘ QSPR

2. ✘ SQRP

3. ✘ PRQS

4. ✔ RPQS

**Question Number : 140 Question Id : 9662315548 Question Type : MCQ Option Shuffling : Yes Display Question Number : Yes Single Line Question Option : No Option Orientation : Vertical**

**Correct Marks : 1 Wrong Marks : 0.25**

The questions below consist of a set of labelled parts of a sentence. Out of four options given, select the most logical order of the parts which form a coherent sentence.

Hiring outside consultants:

P : among top-ranking

Q : companies and the hype will

R : is just a status quo

S : probably not last for long

**Options :**

1. ✘ QSPR

2. ✘ SQRP

3. ✘ PRQS

4. ✔ RPQS

General English2

Group Number :	8
Group Id :	96623171
Group Maximum Duration :	0
Group Minimum Duration :	0
Revisit allowed for view? :	No
Revisit allowed for edit? :	No
Break time:	0
Group Marks:	20
Revisit allowed for group Instructions? :	Yes
Maximum Instruction Time:	0
Minimum Instruction Time:	0

General English2

Section Id :	966231186
Section Number :	1
Section type :	Online
Mandatory or Optional:	Mandatory
Number of Questions:	16
Number of Questions to be attempted:	16
Section Marks:	20
Display Number Panel:	Yes
Group All Questions:	No

Sub-Section Number:	1
Sub-Section Id:	966231194
Question Shuffling Allowed :	Yes

Question Number : 141 Question Id : 9662315549 Question Type : MCQ Option Shuffling : Yes Display Question Number : Yes  
Single Line Question Option : No Option Orientation : Vertical  
Correct Marks : 1 Wrong Marks : 0.25

The sentences of a paragraph have been jumbled up, and labelled P, Q, R and S. Select the option that gives the correct sequence in which these sentences should be rearranged to form a meaningful paragraph.

Psychohistory does not merely use psychological explanations in historical contexts:

P : Historians have always used such explanations when they were appropriate and when there was sufficient evidence for them.

Q : This commitment precludes a commitment to history as historians have always understood it.

R : They are committed, not just to psychology in general, but to Freudian psychoanalysis.

S : But this pragmatic use of psychology is not what psycho-historians intend.

Psychohistory derives its facts not from history, the detailed records of events and their consequences, but from psychoanalysis of the individuals who make history.

Options :

- ✘ QSPR
- ✘ RSQP
- ✘ SPQR
- ✔ PSRQ

Question Number : 141 Question Id : 9662315549 Question Type : MCQ Option Shuffling : Yes Display Question Number : Yes  
Single Line Question Option : No Option Orientation : Vertical

Correct Marks : 1 Wrong Marks : 0.25

The sentences of a paragraph have been jumbled up, and labelled P, Q, R and S. Select the option that gives the correct sequence in which these sentences should be rearranged to form a meaningful paragraph.

Psychohistory does not merely use psychological explanations in historical contexts:

P : Historians have always used such explanations when they were appropriate and when there was sufficient evidence for them.

Q : This commitment precludes a commitment to history as historians have always understood it.

R : They are committed, not just to psychology in general, but to Freudian psychoanalysis.

S : But this pragmatic use of psychology is not what psycho-historians intend.

Psychohistory derives its facts not from history, the detailed records of events and their consequences, but from psychoanalysis of the individuals who make history.

Options :

1. ✘ QSPR

2. ✘ RSQP

3. ✘ SPQR

4. ✔ PSRQ

Question Number : 142 Question Id : 9662315550 Question Type : MCQ Option Shuffling : Yes Display Question Number : Yes  
Single Line Question Option : No Option Orientation : Vertical

Correct Marks : 1 Wrong Marks : 0.25

Select the word that is the most appropriate SYNONYM of the word given below.

INTRICATE

Options :

1. ✔ Complicated

2. ✘ Regulated

3. ✘ Skilled

4. ✘ Unskilled

Question Number : 142 Question Id : 9662315550 Question Type : MCQ Option Shuffling : Yes Display Question Number : Yes  
Single Line Question Option : No Option Orientation : Vertical

Correct Marks : 1 Wrong Marks : 0.25

Select the word that is the most appropriate SYNONYM of the word given below.

INTRICATE

Options :

1. ✔ Complicated

2. ✘ Regulated

3. ✘ Skilled

4. ✘ Unskilled

Question Number : 143 Question Id : 9662315551 Question Type : MCQ Option Shuffling : Yes Display Question Number : Yes  
Single Line Question Option : No Option Orientation : Vertical

Correct Marks : 1 Wrong Marks : 0.25

Select the word that is the most appropriate SYNONYM of the word given below.

BLUNT

Options :

- ✘ Calm
- ✘ Keen
- ✘ Cruel
- ✔ Dull

Question Number : 143 Question Id : 9662315551 Question Type : MCQ Option Shuffling : Yes Display Question Number : Yes  
Single Line Question Option : No Option Orientation : Vertical

Correct Marks : 1 Wrong Marks : 0.25

Select the word that is the most appropriate SYNONYM of the word given below.

BLUNT

Options :

- ✘ Calm
- ✘ Keen
- ✘ Cruel
- ✔ Dull

Question Number : 144 Question Id : 9662315552 Question Type : MCQ Option Shuffling : Yes Display Question Number : Yes  
Single Line Question Option : No Option Orientation : Vertical

Correct Marks : 1 Wrong Marks : 0.25

Select the word that is the most appropriate ANTONYM of the word given below.

HASTY

Options :

- ✘ Insignificant
- ✘ Danger
- ✘ Abrupt
- ✔ Cautious

Question Number : 144 Question Id : 9662315552 Question Type : MCQ Option Shuffling : Yes Display Question Number : Yes  
Single Line Question Option : No Option Orientation : Vertical

Correct Marks : 1 Wrong Marks : 0.25

Select the word that is the most appropriate ANTONYM of the word given below.

HASTY

Options :

- ✘ Insignificant
- ✘ Danger
- ✘ Abrupt
- ✔ Cautious

Question Number : 145 Question Id : 9662315553 Question Type : MCQ Option Shuffling : Yes Display Question Number : Yes  
Single Line Question Option : No Option Orientation : Vertical

Correct Marks : 1 Wrong Marks : 0.25

Select the word that is the most appropriate ANTONYM of the word given below.

DEFRAY

Options :

- ✘ Approve
- ✔ Disclaim

3. ✘ Smart
4. ✘ Spend

Question Number : 145 Question Id : 9662315553 Question Type : MCQ Option Shuffling : Yes Display Question Number : Yes  
Single Line Question Option : No Option Orientation : Vertical

Correct Marks : 1 Wrong Marks : 0.25

Select the word that is the most appropriate ANTONYM of the word given below.

DEFRAY

Options :

1. ✘ Approve
2. ✔ Disclaim
3. ✘ Smart
4. ✘ Spend

Question Number : 146 Question Id : 9662315554 Question Type : MCQ Option Shuffling : Yes Display Question Number : Yes  
Single Line Question Option : No Option Orientation : Vertical

Correct Marks : 1 Wrong Marks : 0.25

Select the word that is the most appropriate ANTONYM of the word given below.

FANATICAL

Options :

1. ✔ Open-minded
2. ✘ Strong
3. ✘ Mistake
4. ✘ Aspire

Question Number : 146 Question Id : 9662315554 Question Type : MCQ Option Shuffling : Yes Display Question Number : Yes  
Single Line Question Option : No Option Orientation : Vertical

Correct Marks : 1 Wrong Marks : 0.25

Select the word that is the most appropriate ANTONYM of the word given below.

FANATICAL

Options :

1. ✔ Open-minded
2. ✘ Strong
3. ✘ Mistake
4. ✘ Aspire

Question Number : 147 Question Id : 9662315555 Question Type : MCQ Option Shuffling : Yes Display Question Number : Yes  
Single Line Question Option : No Option Orientation : Vertical

Correct Marks : 1 Wrong Marks : 0.25

Four words are given, out of which only one word is spelt correctly. Choose the correctly spelt word.

Options :

1. ✘ Monotonusiness
2. ✔ Monotonousness
3. ✘ Monotnouscess
4. ✘ Monotonosness

Question Number : 147 Question Id : 9662315555 Question Type : MCQ Option Shuffling : Yes Display Question Number : Yes  
Single Line Question Option : No Option Orientation : Vertical

Correct Marks : 1 Wrong Marks : 0.25

Four words are given, out of which only one word is spelt correctly. Choose the correctly spelt word.

Options :

1. ✘ Monotonusiness
2. ✔ Monotonousness
3. ✘ Monotnouscess
4. ✘ Monotonosness

Question Number : 148 Question Id : 9662315556 Question Type : MCQ Option Shuffling : Yes Display Question Number : Yes  
Single Line Question Option : No Option Orientation : Vertical

Correct Marks : 1 Wrong Marks : 0.25

Four words are given, out of which only one word is spelt correctly. Choose the correctly spelt word.

Options :

1. ✘ Deteriarotion
2. ✘ Detarioration
3. ✘ Detetioration
4. ✔ Deterioration

Question Number : 148 Question Id : 9662315556 Question Type : MCQ Option Shuffling : Yes Display Question Number : Yes  
Single Line Question Option : No Option Orientation : Vertical

Correct Marks : 1 Wrong Marks : 0.25

Four words are given, out of which only one word is spelt correctly. Choose the correctly spelt word.

Options :

1. ✘ Deteriarotion
2. ✘ Detarioration
3. ✘ Detetioration
4. ✔ Deterioration

Question Number : 149 Question Id : 9662315557 Question Type : MCQ Option Shuffling : Yes Display Question Number : Yes  
Single Line Question Option : No Option Orientation : Vertical

Correct Marks : 1 Wrong Marks : 0.25

Four words are given, out of which only one word is spelt correctly. Choose the correctly spelt word.

Options :

1. ✘ Homungous
2. ✘ Humongus
3. ✘ Homoungous
4. ✔ Humongous

Question Number : 149 Question Id : 9662315557 Question Type : MCQ Option Shuffling : Yes Display Question Number : Yes  
Single Line Question Option : No Option Orientation : Vertical

Correct Marks : 1 Wrong Marks : 0.25

Four words are given, out of which only one word is spelt correctly. Choose the correctly spelt word.

Options :

1. ✘ Homungous
2. ✘ Humongus
3. ✘ Homoungous
4. ✔ Humongous

Question Number : 150 Question Id : 9662315558 Question Type : MCQ Option Shuffling : Yes Display Question Number : Yes  
Single Line Question Option : No Option Orientation : Vertical

Correct Marks : 1 Wrong Marks : 0.25

Select the option that best expresses the meaning of the idiom or phrase given below.

Be in the mire

Options :

1. ✘ To be depressed
2. ✘ To make in guess
3. ✔ To be in a difficult situation
4. ✘ To be confused

Question Number : 150 Question Id : 9662315558 Question Type : MCQ Option Shuffling : Yes Display Question Number : Yes  
Single Line Question Option : No Option Orientation : Vertical

Correct Marks : 1 Wrong Marks : 0.25

Select the option that best expresses the meaning of the idiom or phrase given below.

Be in the mire

Options :

1. ✘ To be depressed
2. ✘ To make in guess
3. ✔ To be in a difficult situation
4. ✘ To be confused

Question Number : 151 Question Id : 9662315559 Question Type : MCQ Option Shuffling : Yes Display Question Number : Yes  
Single Line Question Option : No Option Orientation : Vertical

Correct Marks : 1 Wrong Marks : 0.25

Select the option that best expresses the meaning of the idiom or phrase given below.

A bee in bonnet

Options :

1. ✘ To be in a controversy
2. ✔ An obsession about something
3. ✘ To misjudge the situation
4. ✘ To make someone feel uncomfortable

Question Number : 151 Question Id : 9662315559 Question Type : MCQ Option Shuffling : Yes Display Question Number : Yes  
Single Line Question Option : No Option Orientation : Vertical

Correct Marks : 1 Wrong Marks : 0.25

Select the option that best expresses the meaning of the idiom or phrase given below.

A bee in bonnet

Options :

1. ✘ To be in a controversy
2. ✔ An obsession about something
3. ✘ To misjudge the situation
4. ✘ To make someone feel uncomfortable

Question Number : 152 Question Id : 9662315560 Question Type : MCQ Option Shuffling : Yes Display Question Number : Yes  
Single Line Question Option : No Option Orientation : Vertical

Correct Marks : 1 Wrong Marks : 0.25

Select the option that best expresses the meaning of the idiom or phrase given below.

In a jiffy

Options :

- ✘ In a loss
- ✔ In a hurry
- ✘ To help someone
- ✘ To dominate someone

Question Number : 152 Question Id : 9662315560 Question Type : MCQ Option Shuffling : Yes Display Question Number : Yes  
Single Line Question Option : No Option Orientation : Vertical

Correct Marks : 1 Wrong Marks : 0.25

Select the option that best expresses the meaning of the idiom or phrase given below.

In a jiffy

Options :

- ✘ In a loss
- ✔ In a hurry
- ✘ To help someone
- ✘ To dominate someone

Question Number : 153 Question Id : 9662315561 Question Type : MCQ Option Shuffling : Yes Display Question Number : Yes  
Single Line Question Option : No Option Orientation : Vertical

Correct Marks : 1 Wrong Marks : 0.25

Select the most appropriate 'one word ' for the expression given below.

One who runs away from justice

Options :

- ✘ Demagogue
- ✘ Fatalist
- ✔ Fugitive
- ✘ Epicure

Question Number : 153 Question Id : 9662315561 Question Type : MCQ Option Shuffling : Yes Display Question Number : Yes  
Single Line Question Option : No Option Orientation : Vertical

Correct Marks : 1 Wrong Marks : 0.25

Select the most appropriate 'one word ' for the expression given below.

One who runs away from justice

Options :

- ✘ Demagogue
- ✘ Fatalist
- ✔ Fugitive
- ✘ Epicure

Question Number : 154 Question Id : 9662315562 Question Type : MCQ Option Shuffling : Yes Display Question Number : Yes  
Single Line Question Option : No Option Orientation : Vertical

Correct Marks : 1 Wrong Marks : 0.25



Select the most appropriate 'one word ' for the expression given below.

A patient with imaginary symptoms and ailments

Options :

1. ✓ Hypochondriac
2. ✗ Henpeck
3. ✗ Heretic
4. ✗ Fanatic

Question Number : 154 Question Id : 9662315562 Question Type : MCQ Option Shuffling : Yes Display Question Number : Yes  
Single Line Question Option : No Option Orientation : Vertical

Correct Marks : 1 Wrong Marks : 0.25

Select the most appropriate 'one word ' for the expression given below.

A patient with imaginary symptoms and ailments

Options :

1. ✓ Hypochondriac
2. ✗ Henpeck
3. ✗ Heretic
4. ✗ Fanatic

Question Number : 155 Question Id : 9662315563 Question Type : MCQ Option Shuffling : Yes Display Question Number : Yes  
Single Line Question Option : No Option Orientation : Vertical

Correct Marks : 1 Wrong Marks : 0.25

Select the most appropriate 'one word ' for the expression given below.

A collection of wild animals kept in captivity for exhibition

Options :

1. ✗ Morgue
2. ✗ Lair
3. ✗ Hutch
4. ✓ Menagerie

Question Number : 155 Question Id : 9662315563 Question Type : MCQ Option Shuffling : Yes Display Question Number : Yes  
Single Line Question Option : No Option Orientation : Vertical

Correct Marks : 1 Wrong Marks : 0.25

Select the most appropriate 'one word ' for the expression given below.

A collection of wild animals kept in captivity for exhibition

Options :

1. ✗ Morgue
2. ✗ Lair
3. ✗ Hutch
4. ✓ Menagerie

Sub-Section Number:	2
Sub-Section Id:	966231195
Question Shuffling Allowed :	Yes

**Question Id : 9662315564 Question Type : COMPREHENSION Sub Question Shuffling Allowed : Yes Group Comprehension Questions : No**

**Question Numbers : (156 to 160)**

**Question Label : Comprehension**

Read the passage carefully and answer the given questions:

A young Venetian, Bassanio, needs a loan of three thousand ducats so that he can woo Portia, a wealthy Venetian heiress. He approaches his friend Antonio, a merchant. Antonio is short of money because all his wealth is invested in his fleet, which is currently at sea. He goes to a Jewish money lender, Shylock, who hates Antonio because of Antonio's anti-semitic behaviour towards him.

Shylock nevertheless agrees to make the short-term loan, but, in a moment of dark humour, he makes a condition - the loan must be repaid in three months or Shylock will exact a pound of flesh from Antonio. Antonio agrees, confident that his ships will return in time. Because of the terms of Portia's father's will, all suitors must choose from among three caskets, one of which contains a portrait of her. If he chooses that he may marry Portia, but if doesn't he must vow never to marry or court another woman. The Princes of Morocco and Arragon fail the test and are rejected. As Bassanio prepares to travel to Belmont for the test, his friend Lorenzo elopes with Shylock's daughter, Jessica. Bassanio chooses the lead casket, which contains her picture, and Portia happily agrees to marry him immediately.

**Sub questions**

**Question Number : 156 Question Id : 9662315565 Question Type : MCQ Option Shuffling : Yes Display Question Number : Yes Single Line Question Option : No Option Orientation : Vertical**

**Correct Marks : 1 Wrong Marks : 0.25**

Antonio was short of money because \_\_\_\_\_.

**Options :**

1. ✘ he spent his entire money in his daughter's wedding
2. ✘ he invested his entire money in his daughter's education
3. ✘ he invested his entire money in travelling
4. ✔ he invested his entire money in his fleet.

**Question Number : 157 Question Id : 9662315566 Question Type : MCQ Option Shuffling : Yes Display Question Number : Yes Single Line Question Option : No Option Orientation : Vertical**

**Correct Marks : 1 Wrong Marks : 0.25**

Who was Shylock?

**Options :**

1. ✘ A young Venetian
2. ✔ A Jewish money lender
3. ✘ A merchant
4. ✘ A Prince of Morocco

**Question Number : 158 Question Id : 9662315567 Question Type : MCQ Option Shuffling : Yes Display Question Number : Yes Single Line Question Option : No Option Orientation : Vertical**

**Correct Marks : 1 Wrong Marks : 0.25**

Why did Shylock hate Antonio?

**Options :**

1. ✘ He was very poor
2. ✔ Because of his anti-semitic behaviour towards Shylock.
3. ✘ Because he wanted to woo Portia
4. ✘ Because he wanted to marry his daughter

Question Number : 159 Question Id : 9662315568 Question Type : MCQ Option Shuffling : Yes Display Question Number : Yes  
Single Line Question Option : No Option Orientation : Vertical

Correct Marks : 1 Wrong Marks : 0.25

Jessica was the daughter of \_\_\_\_\_.

Options :

- ✘ Lorenzo
- ✔ Shylock
- ✘ Bassanio
- ✘ Portia

Question Number : 160 Question Id : 9662315569 Question Type : MCQ Option Shuffling : Yes Display Question Number : Yes  
Single Line Question Option : No Option Orientation : Vertical

Correct Marks : 1 Wrong Marks : 0.25

Bassanio needed a loan of three thousand ducats so that \_\_\_\_\_.

Options :

- ✔ he could woo Portia
- ✘ he could invest the money in his fleet
- ✘ he could pay for his kid's education
- ✘ he could travel the world

Question Id : 9662315564 Question Type : COMPREHENSION Sub Question Shuffling Allowed : Yes Group Comprehension  
Questions : No

Question Numbers : (156 to 160)

Question Label : Comprehension

Read the passage carefully and answer the given questions:

A young Venetian, Bassanio, needs a loan of three thousand ducats so that he can woo Portia, a wealthy Venetian heiress. He approaches his friend Antonio, a merchant. Antonio is short of money because all his wealth is invested in his fleet, which is currently at sea. He goes to a Jewish money lender, Shylock, who hates Antonio because of Antonio's anti-semitic behaviour towards him.

Shylock nevertheless agrees to make the short-term loan, but, in a moment of dark humour, he makes a condition - the loan must be repaid in three months or Shylock will exact a pound of flesh from Antonio. Antonio agrees, confident that his ships will return in time. Because of the terms of Portia's father's will, all suitors must choose from among three caskets, one of which contains a portrait of her. If he chooses that he may marry Portia, but if doesn't he must vow never to marry or court another woman. The Princes of Morocco and Arragon fail the test and are rejected. As Bassanio prepares to travel to Belmont for the test, his friend Lorenzo elopes with Shylock's daughter, Jessica. Bassanio chooses the lead casket, which contains her picture, and Portia happily agrees to marry him immediately.

Sub questions

Question Number : 156 Question Id : 9662315565 Question Type : MCQ Option Shuffling : Yes Display Question Number : Yes  
Single Line Question Option : No Option Orientation : Vertical

Correct Marks : 1 Wrong Marks : 0.25

Antonio was short of money because \_\_\_\_\_.

Options :

- ✘ he spent his entire money in his daughter's wedding
- ✘ he invested his entire money in his daughter's education
- ✘ he invested his entire money in travelling
- ✔ he invested his entire money in his fleet.

Question Number : 157 Question Id : 9662315566 Question Type : MCQ Option Shuffling : Yes Display Question Number : Yes  
Single Line Question Option : No Option Orientation : Vertical

Correct Marks : 1 Wrong Marks : 0.25

Who was Shylock?

Options :

1. ✘ A young Venetian
2. ✔ A Jewish money lender
3. ✘ A merchant
4. ✘ A Prince of Morocco

Question Number : 158 Question Id : 9662315567 Question Type : MCQ Option Shuffling : Yes Display Question Number : Yes  
Single Line Question Option : No Option Orientation : Vertical

Correct Marks : 1 Wrong Marks : 0.25

Why did Shylock hate Antonio?

Options :

1. ✘ He was very poor
2. ✔ Because of his anti-semitic behaviour towards Shylock.
3. ✘ Because he wanted to woo Portia
4. ✘ Because he wanted to marry his daughter

Question Number : 159 Question Id : 9662315568 Question Type : MCQ Option Shuffling : Yes Display Question Number : Yes  
Single Line Question Option : No Option Orientation : Vertical

Correct Marks : 1 Wrong Marks : 0.25

Jessica was the daughter of \_\_\_\_\_.

Options :

1. ✘ Lorenzo
2. ✔ Shylock
3. ✘ Bassanio
4. ✘ Portia

Question Number : 160 Question Id : 9662315569 Question Type : MCQ Option Shuffling : Yes Display Question Number : Yes  
Single Line Question Option : No Option Orientation : Vertical

Correct Marks : 1 Wrong Marks : 0.25

Bassanio needed a loan of three thousand ducats so that \_\_\_\_\_.

Options :

1. ✔ he could woo Portia
2. ✘ he could invest the money in his fleet
3. ✘ he could pay for his kid's education
4. ✘ he could travel the world

General Hindi 1

Group Number :	9
Group Id :	96623172
Group Maximum Duration :	0
Group Minimum Duration :	0
Revisit allowed for view? :	No
Revisit allowed for edit? :	No
Break time:	0
Group Marks:	20
Revisit allowed for group Instructions? :	Yes

Maximum Instruction Time: 0  
Minimum Instruction Time: 0

General Hindi 1

Section Id : 966231187  
Section Number : 1  
Section type : Online  
Mandatory or Optional: Mandatory  
Number of Questions: 20  
Number of Questions to be attempted: 20  
Section Marks: 20  
Display Number Panel: Yes  
Group All Questions: No

Sub-Section Number: 1  
Sub-Section Id: 966231196  
Question Shuffling Allowed : Yes

Question Number : 161 Question Id : 9662315570 Question Type : MCQ Option Shuffling : Yes Display Question Number : Yes  
Single Line Question Option : No Option Orientation : Vertical

Correct Marks : 1 Wrong Marks : 0.25

निम्नलिखित प्रश्न में, चार विकल्पों में से, उस विकल्प का चयन करें जो उपसर्ग से बने शब्द का सही उदाहरण नहीं हो।

Options :

1. ✘ अधमरा
2. ✘ प्रतिध्वनि
3. ✘ भरपूर
4. ✔ दर्दनाक

Question Number : 161 Question Id : 9662315570 Question Type : MCQ Option Shuffling : Yes Display Question Number : Yes  
Single Line Question Option : No Option Orientation : Vertical

Correct Marks : 1 Wrong Marks : 0.25

निम्नलिखित प्रश्न में, चार विकल्पों में से, उस विकल्प का चयन करें जो उपसर्ग से बने शब्द का सही उदाहरण नहीं हो।

Options :

1. ✘ अधमरा
2. ✘ प्रतिध्वनि
3. ✘ भरपूर
4. ✔ दर्दनाक

Question Number : 162 Question Id : 9662315571 Question Type : MCQ Option Shuffling : Yes Display Question Number : Yes  
Single Line Question Option : No Option Orientation : Vertical

Correct Marks : 1 Wrong Marks : 0.25

निम्नलिखित प्रश्न में, चार विकल्पों में से, उस विकल्प का चयन करें जो प्रत्यय से बने शब्द का सही उदाहरण नहीं हो।

Options :

1. ✘ चिड़िया
2. ✘ हिस्सेदार
3. ✔ चिरायु
4. ✘ हर्षित

Question Number : 162 Question Id : 9662315571 Question Type : MCQ Option Shuffling : Yes Display Question Number : Yes  
Single Line Question Option : No Option Orientation : Vertical

Correct Marks : 1 Wrong Marks : 0.25

निम्नलिखित प्रश्न में, चार विकल्पों में से, उस विकल्प का चयन करें जो प्रत्यय से बने शब्द का सही उदाहरण नहीं हो।

Options :

- ❌ चिड़िया
- ❌ हिस्सेदार
- ✅ चिरायु
- ❌ हर्षित

Question Number : 163 Question Id : 9662315572 Question Type : MCQ Option Shuffling : Yes Display Question Number : Yes  
Single Line Question Option : No Option Orientation : Vertical

Correct Marks : 1 Wrong Marks : 0.25

निम्नलिखित प्रश्न में, चार विकल्पों में से, उस विकल्प का चयन करें जो दिए गए शब्द के लिए सही द्विगु समास के विग्रह का उदाहरण हो।

त्रिफला

Options :

- ✅ तीन फलों का समूह
- ❌ तीन फलों के अनुसार
- ❌ तीन है फल जिसके
- ❌ तीन फल

Question Number : 163 Question Id : 9662315572 Question Type : MCQ Option Shuffling : Yes Display Question Number : Yes  
Single Line Question Option : No Option Orientation : Vertical

Correct Marks : 1 Wrong Marks : 0.25

निम्नलिखित प्रश्न में, चार विकल्पों में से, उस विकल्प का चयन करें जो दिए गए शब्द के लिए सही द्विगु समास के विग्रह का उदाहरण हो।

त्रिफला

Options :

- ✅ तीन फलों का समूह
- ❌ तीन फलों के अनुसार
- ❌ तीन है फल जिसके
- ❌ तीन फल

Question Number : 164 Question Id : 9662315573 Question Type : MCQ Option Shuffling : Yes Display Question Number : Yes  
Single Line Question Option : No Option Orientation : Vertical

Correct Marks : 1 Wrong Marks : 0.25

निम्नलिखित प्रश्न में, चार विकल्पों में से, उस विकल्प का चयन करें जो क्रिया के भेद वाला सही उदाहरण हो।

बच्चा जोकर को देखकर हँसने लगा।

Options :

- ✅ पूर्वकालिक क्रिया
- ❌ नामधातु
- ❌ प्रेरणार्थक क्रिया
- ❌ संयुक्त क्रिया

Question Number : 164 Question Id : 9662315573 Question Type : MCQ Option Shuffling : Yes Display Question Number : Yes  
Single Line Question Option : No Option Orientation : Vertical

Correct Marks : 1 Wrong Marks : 0.25

निम्नलिखित प्रश्न में, चार विकल्पों में से, उस विकल्प का चयन करें जो क्रिया के भेद वाला सही उदाहरण हो।

बच्चा जोकर को देखकर हँसने लगा।

Options :

1. ✓ पूर्वकालिक क्रिया
2. ✗ नामधातु
3. ✗ प्रेरणार्थक क्रिया
4. ✗ संयुक्त क्रिया

Question Number : 165 Question Id : 9662315574 Question Type : MCQ Option Shuffling : Yes Display Question Number : Yes  
Single Line Question Option : No Option Orientation : Vertical

Correct Marks : 1 Wrong Marks : 0.25

निम्नलिखित प्रश्न में, चार विकल्पों में से, उस विकल्प का चयन करें जो कोष्ठक में दिए गए शब्द के अनुसार अव्यय के भेद का सही उदाहरण हो।

बबलू नीम (के नीचे) एक खाट पर लेटा है।

Options :

1. ✗ क्रियाविशेषण अव्यय
2. ✗ समुच्चयबोधक अव्यय
3. ✗ विस्मयादिबोधक अव्यय
4. ✓ संबंधबोधक अव्यय

Question Number : 165 Question Id : 9662315574 Question Type : MCQ Option Shuffling : Yes Display Question Number : Yes  
Single Line Question Option : No Option Orientation : Vertical

Correct Marks : 1 Wrong Marks : 0.25

निम्नलिखित प्रश्न में, चार विकल्पों में से, उस विकल्प का चयन करें जो कोष्ठक में दिए गए शब्द के अनुसार अव्यय के भेद का सही उदाहरण हो।

बबलू नीम (के नीचे) एक खाट पर लेटा है।

Options :

1. ✗ क्रियाविशेषण अव्यय
2. ✗ समुच्चयबोधक अव्यय
3. ✗ विस्मयादिबोधक अव्यय
4. ✓ संबंधबोधक अव्यय

Question Number : 166 Question Id : 9662315575 Question Type : MCQ Option Shuffling : Yes Display Question Number : Yes  
Single Line Question Option : No Option Orientation : Vertical

Correct Marks : 1 Wrong Marks : 0.25

निम्नलिखित प्रश्न में, चार विकल्पों में से, उस विकल्प का चयन करें जो दिए गए शब्द के पर्यायवाची शब्द का सही उदाहरण नहीं है।

अनुमान

Options :

1. ✗ अटकल
2. ✗ प्राक्कलन
3. ✓ पुराना
4. ✗ आँकना

Question Number : 166 Question Id : 9662315575 Question Type : MCQ Option Shuffling : Yes Display Question Number : Yes  
Single Line Question Option : No Option Orientation : Vertical

Correct Marks : 1 Wrong Marks : 0.25

निम्नलिखित प्रश्न में, चार विकल्पों में से, उस विकल्प का चयन करें जो दिए गए शब्द के पर्यायवाची शब्द का सही उदाहरण नहीं है।

अनुमान

Options :

1. ✘ अटकल
2. ✘ प्राक्कलन
3. ✔ पुराना
4. ✘ आँकना

Question Number : 167 Question Id : 9662315576 Question Type : MCQ Option Shuffling : Yes Display Question Number : Yes  
Single Line Question Option : No Option Orientation : Vertical

Correct Marks : 1 Wrong Marks : 0.25

निम्नलिखित प्रश्न में, चार विकल्पों में से, उस विकल्प का चयन करें जो दिए गए शब्द के पर्यायवाची शब्द का सही विकल्प नहीं है।

इच्छा

Options :

1. ✔ सारभूत
2. ✘ एषणा
3. ✘ अभिलाषा
4. ✘ चाह

Question Number : 167 Question Id : 9662315576 Question Type : MCQ Option Shuffling : Yes Display Question Number : Yes  
Single Line Question Option : No Option Orientation : Vertical

Correct Marks : 1 Wrong Marks : 0.25

निम्नलिखित प्रश्न में, चार विकल्पों में से, उस विकल्प का चयन करें जो दिए गए शब्द के पर्यायवाची शब्द का सही विकल्प नहीं है।

इच्छा

Options :

1. ✔ सारभूत
2. ✘ एषणा
3. ✘ अभिलाषा
4. ✘ चाह

Question Number : 168 Question Id : 9662315577 Question Type : MCQ Option Shuffling : Yes Display Question Number : Yes  
Single Line Question Option : No Option Orientation : Vertical

Correct Marks : 1 Wrong Marks : 0.25

निम्नलिखित प्रश्न में, चार विकल्पों में से, उस विकल्प का चयन करें जो दिए गए शब्द के विलोम शब्द का सही विकल्प है।

तटस्थ

Options :

1. ✘ निष्पक्ष
2. ✔ पक्षपाती
3. ✘ भावहीन
4. ✘ अनासक्त

Question Number : 168 Question Id : 9662315577 Question Type : MCQ Option Shuffling : Yes Display Question Number : Yes  
Single Line Question Option : No Option Orientation : Vertical

Correct Marks : 1 Wrong Marks : 0.25

निम्नलिखित प्रश्न में, चार विकल्पों में से, उस विकल्प का चयन करें जो दिए गए शब्द के विलोम शब्द का सही विकल्प है।

तटस्थ

Options :

1. ✘ निष्पक्ष



2. ✓ पक्षपाती
3. ✗ भावहीन
4. ✗ अनासक्त

Question Number : 169 Question Id : 9662315578 Question Type : MCQ Option Shuffling : Yes Display Question Number : Yes  
Single Line Question Option : No Option Orientation : Vertical

Correct Marks : 1 Wrong Marks : 0.25

निम्नलिखित प्रश्न में, चार विकल्पों में से, उस विकल्प का चयन करें जो दिए गए शब्द के विलोम शब्द का सही विकल्प है।

अनिवार्य

Options :

1. ✗ अवज्ञा
2. ✗ अनुचित
3. ✗ जरूरी
4. ✓ ऐच्छिक

Question Number : 169 Question Id : 9662315578 Question Type : MCQ Option Shuffling : Yes Display Question Number : Yes  
Single Line Question Option : No Option Orientation : Vertical

Correct Marks : 1 Wrong Marks : 0.25

निम्नलिखित प्रश्न में, चार विकल्पों में से, उस विकल्प का चयन करें जो दिए गए शब्द के विलोम शब्द का सही विकल्प है।

अनिवार्य

Options :

1. ✗ अवज्ञा
2. ✗ अनुचित
3. ✗ जरूरी
4. ✓ ऐच्छिक

Question Number : 170 Question Id : 9662315579 Question Type : MCQ Option Shuffling : Yes Display Question Number : Yes  
Single Line Question Option : No Option Orientation : Vertical

Correct Marks : 1 Wrong Marks : 0.25

निम्नलिखित प्रश्न में, चार विकल्पों में से, उस सही विकल्प का चयन करें जो दिए गए शब्द-युग्म के अर्थ का सही विकल्प हो।

परजन-पर्जन्य

Options :

1. ✗ सगा और बादल
2. ✗ बादल और पड़ोसी
3. ✓ शत्रु और बादल
4. ✗ शत्रु और पड़ोसी

Question Number : 170 Question Id : 9662315579 Question Type : MCQ Option Shuffling : Yes Display Question Number : Yes  
Single Line Question Option : No Option Orientation : Vertical

Correct Marks : 1 Wrong Marks : 0.25

निम्नलिखित प्रश्न में, चार विकल्पों में से, उस सही विकल्प का चयन करें जो दिए गए शब्द-युग्म के अर्थ का सही विकल्प हो।

परजन-पर्जन्य

Options :

1. ✗ सगा और बादल
2. ✗ बादल और पड़ोसी
3. ✓ शत्रु और बादल

4. ✖ शत्रु और पड़ोसी

Question Number : 171 Question Id : 9662315580 Question Type : MCQ Option Shuffling : Yes Display Question Number : Yes  
Single Line Question Option : No Option Orientation : Vertical

Correct Marks : 1 Wrong Marks : 0.25

निम्नलिखित प्रश्न में, चार विकल्पों में से, उस विकल्प का चयन करें जो दिए गए वाक्यांश के लिए एक शब्द का सही विकल्प है।

लेने की तीव्र इच्छा

Options :

1. ✖ मर्मन्तिक
2. ✖ शुभेच्छु
3. ✓ लिप्सा
4. ✖ पारलौकिक

Question Number : 171 Question Id : 9662315580 Question Type : MCQ Option Shuffling : Yes Display Question Number : Yes  
Single Line Question Option : No Option Orientation : Vertical

Correct Marks : 1 Wrong Marks : 0.25

निम्नलिखित प्रश्न में, चार विकल्पों में से, उस विकल्प का चयन करें जो दिए गए वाक्यांश के लिए एक शब्द का सही विकल्प है।

लेने की तीव्र इच्छा

Options :

1. ✖ मर्मन्तिक
2. ✖ शुभेच्छु
3. ✓ लिप्सा
4. ✖ पारलौकिक

Question Number : 172 Question Id : 9662315581 Question Type : MCQ Option Shuffling : Yes Display Question Number : Yes  
Single Line Question Option : No Option Orientation : Vertical

Correct Marks : 1 Wrong Marks : 0.25

निम्नलिखित प्रश्न में, चार विकल्पों में से, उस सही विकल्प का चयन करें जो रिक्त स्थान के लिए उचित विकल्प हो।

जो गलत काम करता है उसका \_\_\_\_\_ निश्चित है।

Options :

1. ✖ पतन
2. ✓ पतन
3. ✖ पतन
4. ✖ परचम

Question Number : 172 Question Id : 9662315581 Question Type : MCQ Option Shuffling : Yes Display Question Number : Yes  
Single Line Question Option : No Option Orientation : Vertical

Correct Marks : 1 Wrong Marks : 0.25

निम्नलिखित प्रश्न में, चार विकल्पों में से, उस सही विकल्प का चयन करें जो रिक्त स्थान के लिए उचित विकल्प हो।

जो गलत काम करता है उसका \_\_\_\_\_ निश्चित है।

Options :

1. ✖ पतन
2. ✓ पतन
3. ✖ पतन
4. ✖ परचम

Question Number : 173 Question Id : 9662315582 Question Type : MCQ Option Shuffling : Yes Display Question Number : Yes  
Single Line Question Option : No Option Orientation : Vertical

Correct Marks : 1 Wrong Marks : 0.25

निम्नलिखित प्रश्न में, चार विकल्पों में से, उस विकल्प का चयन करें जो दिए गए शब्द के समानार्थी शब्द का विकल्प नहीं है।

मंतव्य

Options :

1. ✘ अभिमत
2. ✘ सम्मति
3. ✘ सलाह
4. ✔ स्थान

Question Number : 173 Question Id : 9662315582 Question Type : MCQ Option Shuffling : Yes Display Question Number : Yes  
Single Line Question Option : No Option Orientation : Vertical

Correct Marks : 1 Wrong Marks : 0.25

निम्नलिखित प्रश्न में, चार विकल्पों में से, उस विकल्प का चयन करें जो दिए गए शब्द के समानार्थी शब्द का विकल्प नहीं है।

मंतव्य

Options :

1. ✘ अभिमत
2. ✘ सम्मति
3. ✘ सलाह
4. ✔ स्थान

Question Number : 174 Question Id : 9662315583 Question Type : MCQ Option Shuffling : Yes Display Question Number : Yes  
Single Line Question Option : No Option Orientation : Vertical

Correct Marks : 1 Wrong Marks : 0.25

निम्नलिखित प्रश्न में, चार विकल्पों में से, उस सही विकल्प का चयन करें जो रिक्त स्थान के लिए उपयुक्त शब्द का सही विकल्प है।

----- इलाहाबाद जाना है।

Options :

1. ✘ मैंने
2. ✘ मेको
3. ✔ मुझे
4. ✘ मैं

Question Number : 174 Question Id : 9662315583 Question Type : MCQ Option Shuffling : Yes Display Question Number : Yes  
Single Line Question Option : No Option Orientation : Vertical

Correct Marks : 1 Wrong Marks : 0.25

निम्नलिखित प्रश्न में, चार विकल्पों में से, उस सही विकल्प का चयन करें जो रिक्त स्थान के लिए उपयुक्त शब्द का सही विकल्प है।

----- इलाहाबाद जाना है।

Options :

1. ✘ मैंने
2. ✘ मेको
3. ✔ मुझे
4. ✘ मैं

Question Number : 175 Question Id : 9662315584 Question Type : MCQ Option Shuffling : Yes Display Question Number : Yes  
Single Line Question Option : No Option Orientation : Vertical

Correct Marks : 1 Wrong Marks : 0.25

निम्नलिखित प्रश्न में, चार विकल्पों में से, उस विकल्प का चयन करें जो शुद्ध शब्द का सही विकल्प है।

Note: For this question, discrepancy is found in question/answer. So, this question is ignored for all candidates.

Options :

1. पुरुषोत्तम
2. पुरुषोत्तम
3. पुरुसोत्तम
4. पुरुषोतम

Question Number : 175 Question Id : 9662315584 Question Type : MCQ Option Shuffling : Yes Display Question Number : Yes  
Single Line Question Option : No Option Orientation : Vertical

Correct Marks : 1 Wrong Marks : 0.25

निम्नलिखित प्रश्न में, चार विकल्पों में से, उस विकल्प का चयन करें जो शुद्ध शब्द का सही विकल्प है।

Note: For this question, discrepancy is found in question/answer. So, this question is ignored for all candidates.

Options :

1. पुरुषोत्तम
2. पुरुषोत्तम
3. पुरुसोत्तम
4. पुरुषोतम

Question Number : 176 Question Id : 9662315585 Question Type : MCQ Option Shuffling : Yes Display Question Number : Yes  
Single Line Question Option : No Option Orientation : Vertical

Correct Marks : 1 Wrong Marks : 0.25

निम्नलिखित प्रश्न में, चार विकल्पों में से, उस विकल्प का चयन करें जो सदा स्त्रीलिंग वाला शब्द है।

Options :

1. ✘ बहाव
2. ✘ गला
3. ✔ गुरुमुखी
4. ✘ चिनार

Question Number : 176 Question Id : 9662315585 Question Type : MCQ Option Shuffling : Yes Display Question Number : Yes  
Single Line Question Option : No Option Orientation : Vertical

Correct Marks : 1 Wrong Marks : 0.25

निम्नलिखित प्रश्न में, चार विकल्पों में से, उस विकल्प का चयन करें जो सदा स्त्रीलिंग वाला शब्द है।

Options :

1. ✘ बहाव
2. ✘ गला
3. ✔ गुरुमुखी
4. ✘ चिनार

Question Number : 177 Question Id : 9662315586 Question Type : MCQ Option Shuffling : Yes Display Question Number : Yes  
Single Line Question Option : No Option Orientation : Vertical

Correct Marks : 1 Wrong Marks : 0.25

निम्नलिखित प्रश्न में, चार विकल्पों में से, उस विकल्प का चयन करें जो दिए गए शब्द का स्त्रीलिंग शब्द वाला विकल्प है।

अग्रज

Options :

1. ✘ अग्रजी
2. ✘ अग्रजिन

3. ✘ अग्रजिया

4. ✔ अग्रजा

Question Number : 177 Question Id : 9662315586 Question Type : MCQ Option Shuffling : Yes Display Question Number : Yes  
Single Line Question Option : No Option Orientation : Vertical

Correct Marks : 1 Wrong Marks : 0.25

निम्नलिखित प्रश्न में, चार विकल्पों में से, उस विकल्प का चयन करें जो दिए गए शब्द का स्त्रीलिंग शब्द वाला विकल्प है।

अग्रज

Options :

1. ✘ अग्रजी

2. ✘ अग्रजिन

3. ✘ अग्रजिया

4. ✔ अग्रजा

Question Number : 178 Question Id : 9662315587 Question Type : MCQ Option Shuffling : Yes Display Question Number : Yes  
Single Line Question Option : No Option Orientation : Vertical

Correct Marks : 1 Wrong Marks : 0.25

निम्नलिखित प्रश्न में, चार विकल्पों में से, उस विकल्प का चयन करें जो सदा बहुवचन शब्द का सबसे अच्छा विकल्प है।

Options :

1. ✘ रायता

2. ✘ रूपया

3. ✔ अक्षत

4. ✘ गमला

Question Number : 178 Question Id : 9662315587 Question Type : MCQ Option Shuffling : Yes Display Question Number : Yes  
Single Line Question Option : No Option Orientation : Vertical

Correct Marks : 1 Wrong Marks : 0.25

निम्नलिखित प्रश्न में, चार विकल्पों में से, उस विकल्प का चयन करें जो सदा बहुवचन शब्द का सबसे अच्छा विकल्प है।

Options :

1. ✘ रायता

2. ✘ रूपया

3. ✔ अक्षत

4. ✘ गमला

Question Number : 179 Question Id : 9662315588 Question Type : MCQ Option Shuffling : Yes Display Question Number : Yes  
Single Line Question Option : No Option Orientation : Vertical

Correct Marks : 1 Wrong Marks : 0.25

निम्नलिखित प्रश्न में, चार विकल्पों में से, उस विकल्प का चयन करें जो दिए गए शब्द के बहुवचन शब्द का सबसे अच्छा विकल्प है।

धेनु

Options :

1. ✘ धेनूयें

2. ✔ धेनुएँ

3. ✘ धेनुओं

4. ✘ धेनुयो

Question Number : 179 Question Id : 9662315588 Question Type : MCQ Option Shuffling : Yes Display Question Number : Yes  
Single Line Question Option : No Option Orientation : Vertical

Correct Marks : 1 Wrong Marks : 0.25

निम्नलिखित प्रश्न में, चार विकल्पों में से, उस विकल्प का चयन करें जो दिए गए शब्द के बहुवचन शब्द का सबसे अच्छा विकल्प है।

धेनु

Options :

1. ✘ धेनुयें
2. ✔ धेनुएँ
3. ✘ धेनुओं
4. ✘ धेनुयो

Question Number : 180 Question Id : 9662315589 Question Type : MCQ Option Shuffling : Yes Display Question Number : Yes  
Single Line Question Option : No Option Orientation : Vertical

Correct Marks : 1 Wrong Marks : 0.25

निम्नलिखित प्रश्न में, चार विकल्पों में से, उस विकल्प का चयन करें जो कोष्ठक में दिए गए शब्द के अनुसार मध्यम पुरुषवाचक सर्वनाम का सही विकल्प हो।

Options :

1. ✔ ( आपको ) आने में कुछ तकलीफ तो नहीं हुई?
2. ✘ ( वह ) यहाँ किस काम से आया है ?
3. ✘ ( मैंने ) खाना खत्म कार दिया है।
4. ✘ ( वह ) अब तक घर पहुँच गया होगा।

Question Number : 180 Question Id : 9662315589 Question Type : MCQ Option Shuffling : Yes Display Question Number : Yes  
Single Line Question Option : No Option Orientation : Vertical

Correct Marks : 1 Wrong Marks : 0.25

निम्नलिखित प्रश्न में, चार विकल्पों में से, उस विकल्प का चयन करें जो कोष्ठक में दिए गए शब्द के अनुसार मध्यम पुरुषवाचक सर्वनाम का सही विकल्प हो।

Options :

1. ✔ ( आपको ) आने में कुछ तकलीफ तो नहीं हुई?
2. ✘ ( वह ) यहाँ किस काम से आया है ?
3. ✘ ( मैंने ) खाना खत्म कार दिया है।
4. ✘ ( वह ) अब तक घर पहुँच गया होगा।

## General Hindi2

Group Number :	10
Group Id :	96623173
Group Maximum Duration :	0
Group Minimum Duration :	120
Revisit allowed for view? :	No
Revisit allowed for edit? :	No
Break time:	0
Group Marks:	20
Revisit allowed for group Instructions? :	Yes
Maximum Instruction Time:	0
Minimum Instruction Time:	0

## General Hindi2

Section Id :	966231188
Section Number :	1
Section type :	Online
Mandatory or Optional:	Mandatory

Number of Questions:	16
Number of Questions to be attempted:	16
Section Marks:	20
Display Number Panel:	Yes
Group All Questions:	No

Sub-Section Number:	1
Sub-Section Id:	966231197
Question Shuffling Allowed :	Yes

Question Number : 181 Question Id : 9662315590 Question Type : MCQ Option Shuffling : Yes Display Question Number : Yes  
Single Line Question Option : No Option Orientation : Vertical

Correct Marks : 1 Wrong Marks : 0.25

निम्नलिखित प्रश्न में, चार विकल्पों में से, उस विकल्प का चयन करें जो दिए गए वाक्य के काल के भेद का सही विकल्प हो।

दादा जी टहलने जा रहे थे।

Options :

1. ✘ हेतुहेतु मद् भूतकाल
2. ✘ आसन्न भूतकाल
3. ✔ अपूर्ण भूतकाल
4. ✘ हेतुहेतुमद् भविष्यत् काल

Question Number : 181 Question Id : 9662315590 Question Type : MCQ Option Shuffling : Yes Display Question Number : Yes  
Single Line Question Option : No Option Orientation : Vertical

Correct Marks : 1 Wrong Marks : 0.25

निम्नलिखित प्रश्न में, चार विकल्पों में से, उस विकल्प का चयन करें जो दिए गए वाक्य के काल के भेद का सही विकल्प हो।

दादा जी टहलने जा रहे थे।

Options :

1. ✘ हेतुहेतु मद् भूतकाल
2. ✘ आसन्न भूतकाल
3. ✔ अपूर्ण भूतकाल
4. ✘ हेतुहेतुमद् भविष्यत् काल

Question Number : 182 Question Id : 9662315591 Question Type : MCQ Option Shuffling : Yes Display Question Number : Yes  
Single Line Question Option : No Option Orientation : Vertical

Correct Marks : 1 Wrong Marks : 0.25

निम्नलिखित प्रश्न में, चार विकल्पों में से, उस विकल्प का चयन करें जो दिए गए वाक्य के लिए वृत्ति के भेद का सबसे अच्छा विकल्प है।

संभव है आज हम उसके घर न जा सकें।

Options :

1. ✔ संभावनार्थ
2. ✘ संकेतार्थ
3. ✘ संदेहार्थ
4. ✘ निश्चयार्थ

Question Number : 182 Question Id : 9662315591 Question Type : MCQ Option Shuffling : Yes Display Question Number : Yes  
Single Line Question Option : No Option Orientation : Vertical

Correct Marks : 1 Wrong Marks : 0.25

निम्नलिखित प्रश्न में, चार विकल्पों में से, उस विकल्प का चयन करें जो दिए गए वाक्य के लिए वृत्ति के भेद का सबसे अच्छा विकल्प है।

संभव है आज हम उसके घर न जा सके।

Options :

1. ✓ संभावनार्थ
2. ✗ संकेतार्थ
3. ✗ संदेहार्थ
4. ✗ निश्चयार्थ

Question Number : 183 Question Id : 9662315592 Question Type : MCQ Option Shuffling : Yes Display Question Number : Yes  
Single Line Question Option : No Option Orientation : Vertical

Correct Marks : 1 Wrong Marks : 0.25

निम्नलिखित प्रश्न में, चार विकल्पों में से, उस विकल्प का चयन करें जो दिए गए वाक्य के लिए पक्ष के भेद का सबसे अच्छा विकल्प है।

मोहन कितनी अच्छी तरह से साइकिल चला रहा है।

Options :

1. ✓ सातप्यबोधक
2. ✗ नित्यताद्योतक
3. ✗ प्रगतिद्योतक
4. ✗ आरंभद्योतक

Question Number : 183 Question Id : 9662315592 Question Type : MCQ Option Shuffling : Yes Display Question Number : Yes  
Single Line Question Option : No Option Orientation : Vertical

Correct Marks : 1 Wrong Marks : 0.25

निम्नलिखित प्रश्न में, चार विकल्पों में से, उस विकल्प का चयन करें जो दिए गए वाक्य के लिए पक्ष के भेद का सबसे अच्छा विकल्प है।

मोहन कितनी अच्छी तरह से साइकिल चला रहा है।

Options :

1. ✓ सातप्यबोधक
2. ✗ नित्यताद्योतक
3. ✗ प्रगतिद्योतक
4. ✗ आरंभद्योतक

Question Number : 184 Question Id : 9662315593 Question Type : MCQ Option Shuffling : Yes Display Question Number : Yes  
Single Line Question Option : No Option Orientation : Vertical

Correct Marks : 1 Wrong Marks : 0.25

निम्न विकल्पों में से निर्देशानुसार वाच्य परिवर्तन का विकल्प चुनिए।

मैं लड़ नहीं सकता (भाववाच्य)

Options :

1. ✗ मैं नहीं लड़ूँगा
2. ✗ लड़ूँगा नहीं मैं
3. ✗ नहीं लड़ सकता मैं
4. ✓ मुझसे लड़ा नहीं जाता

Question Number : 184 Question Id : 9662315593 Question Type : MCQ Option Shuffling : Yes Display Question Number : Yes  
Single Line Question Option : No Option Orientation : Vertical

Correct Marks : 1 Wrong Marks : 0.25



निम्न विकल्पों में से निर्देशानुसार वाच्य परिवर्तन का विकल्प चुनिए।

मैं लड़ नहीं सकता (भाववाच्य)

Options :

1. ✘ मैं नहीं लड़ूँगा
2. ✘ लड़ूँगा नहीं मैं
3. ✘ नहीं लड़ सकता मैं
4. ✔ मुझसे लड़ा नहीं जाता

Question Number : 185 Question Id : 9662315594 Question Type : MCQ Option Shuffling : Yes Display Question Number : Yes  
Single Line Question Option : No Option Orientation : Vertical

Correct Marks : 1 Wrong Marks : 0.25

निम्नलिखित प्रश्न में, चार विकल्पों में से, उस विकल्प का चयन करें जो सही वाक्य भेद का विकल्प हो।

बच्चे हमारे देश के भविष्य निर्माता हैं।

Options :

1. ✔ सरल वाक्य
2. ✘ संयुक्त वाक्य
3. ✘ निषेधवाचक वाक्य
4. ✘ मिश्र वाक्य

Question Number : 185 Question Id : 9662315594 Question Type : MCQ Option Shuffling : Yes Display Question Number : Yes  
Single Line Question Option : No Option Orientation : Vertical

Correct Marks : 1 Wrong Marks : 0.25

निम्नलिखित प्रश्न में, चार विकल्पों में से, उस विकल्प का चयन करें जो सही वाक्य भेद का विकल्प हो।

बच्चे हमारे देश के भविष्य निर्माता हैं।

Options :

1. ✔ सरल वाक्य
2. ✘ संयुक्त वाक्य
3. ✘ निषेधवाचक वाक्य
4. ✘ मिश्र वाक्य

Question Number : 186 Question Id : 9662315595 Question Type : MCQ Option Shuffling : Yes Display Question Number : Yes  
Single Line Question Option : No Option Orientation : Vertical

Correct Marks : 1 Wrong Marks : 0.25

निम्नलिखित प्रश्न में, चार विकल्पों में से, उस विकल्प का चयन करें जो सही वाक्य भेद का विकल्प हो।

ज्यों ही मैं स्टेशन पहुँचा, त्यों ही ट्रेन चली गई।

Options :

1. ✘ संदेहवाचक वाक्य
2. ✔ मिश्र वाक्य
3. ✘ संयुक्त वाक्य
4. ✘ संकेतवाचक वाक्य

Question Number : 186 Question Id : 9662315595 Question Type : MCQ Option Shuffling : Yes Display Question Number : Yes  
Single Line Question Option : No Option Orientation : Vertical

Correct Marks : 1 Wrong Marks : 0.25

निम्नलिखित प्रश्न में, चार विकल्पों में से, उस विकल्प का चयन करें जो सही वाक्य भेद का विकल्प हो

ज्यों ही मैं स्टेशन पहुँचा, त्यों ही ट्रेन चली गई

Options :

1. ✘ संदेहवाचक वाक्य
2. ✔ मिश्र वाक्य
3. ✘ संयुक्त वाक्य
4. ✘ संकेतवाचक वाक्य

Question Number : 187 Question Id : 9662315596 Question Type : MCQ Option Shuffling : Yes Display Question Number : Yes  
Single Line Question Option : No Option Orientation : Vertical

Correct Marks : 1 Wrong Marks : 0.25

निम्नलिखित प्रश्न में, चार विकल्पों में से, उस विकल्प का चयन करें जो सही वाक्य भेद का विकल्प हो

हम बगीचे में पहुंचे और खेलने लगे है

Options :

1. ✘ विधानवाचक वाक्य
2. ✘ सरल वाक्य
3. ✘ मिश्र वाक्य
4. ✔ संयुक्त वाक्य

Question Number : 187 Question Id : 9662315596 Question Type : MCQ Option Shuffling : Yes Display Question Number : Yes  
Single Line Question Option : No Option Orientation : Vertical

Correct Marks : 1 Wrong Marks : 0.25

निम्नलिखित प्रश्न में, चार विकल्पों में से, उस विकल्प का चयन करें जो सही वाक्य भेद का विकल्प हो

हम बगीचे में पहुंचे और खेलने लगे है

Options :

1. ✘ विधानवाचक वाक्य
2. ✘ सरल वाक्य
3. ✘ मिश्र वाक्य
4. ✔ संयुक्त वाक्य

Question Number : 188 Question Id : 9662315597 Question Type : MCQ Option Shuffling : Yes Display Question Number : Yes  
Single Line Question Option : No Option Orientation : Vertical

Correct Marks : 1 Wrong Marks : 0.25

निम्नलिखित प्रश्न में, चार विकल्पों में से, उस विकल्प का चयन करें जो विराम चिह्न युक्त वाक्य का सही विकल्प हो

Options :

1. ✔ भाइयों और बहनों! आपको नए साल की बधाई
2. ✘ भाइयों और बहनों, आपको नए साल की बधाई
3. ✘ भाइयों और बहनों- आपको नए साल की बधाई
4. ✘ भाइयों और बहनों! आपको नए साल की बधाई

Question Number : 188 Question Id : 9662315597 Question Type : MCQ Option Shuffling : Yes Display Question Number : Yes  
Single Line Question Option : No Option Orientation : Vertical

Correct Marks : 1 Wrong Marks : 0.25

निम्नलिखित प्रश्न में, चार विकल्पों में से, उस विकल्प का चयन करें जो विराम चिह्न युक्त वाक्य का सही विकल्प हो

Options :

1. ✔ भाइयों और बहनों! आपको नए साल की बधाई

2. ✘ भाइयों और बहनों, आपको नए साल की बधाई
3. ✘ भाइयों और बहनों- आपको नए साल की बधाई
4. ✘ भाइयों और बहनों! आपको नए साल की बधाई

Question Number : 189 Question Id : 9662315598 Question Type : MCQ Option Shuffling : Yes Display Question Number : Yes  
Single Line Question Option : No Option Orientation : Vertical

Correct Marks : 1 Wrong Marks : 0.25

निम्नलिखित प्रश्न में, चार विकल्पों में से, उस विकल्प का चयन करें जो विराम चिह्न युक्त वाक्य का सही विकल्प हो।

Options :

1. ✘ प्रस्तुत पंक्तियाँ मधुशाला कविता से ली गई हैं।
2. ✔ प्रस्तुत पंक्तियाँ 'मधुशाला' कविता से ली गई हैं।
3. ✘ प्रस्तुत पंक्तियाँ 'मधुशाला' कविता से ली गई हैं?
4. ✘ प्रस्तुत पंक्तियाँ - 'मधुशाला' कविता से ली गई हैं।

Question Number : 189 Question Id : 9662315598 Question Type : MCQ Option Shuffling : Yes Display Question Number : Yes  
Single Line Question Option : No Option Orientation : Vertical

Correct Marks : 1 Wrong Marks : 0.25

निम्नलिखित प्रश्न में, चार विकल्पों में से, उस विकल्प का चयन करें जो विराम चिह्न युक्त वाक्य का सही विकल्प हो।

Options :

1. ✘ प्रस्तुत पंक्तियाँ मधुशाला कविता से ली गई हैं।
2. ✔ प्रस्तुत पंक्तियाँ 'मधुशाला' कविता से ली गई हैं।
3. ✘ प्रस्तुत पंक्तियाँ 'मधुशाला' कविता से ली गई हैं?
4. ✘ प्रस्तुत पंक्तियाँ - 'मधुशाला' कविता से ली गई हैं।

Question Number : 190 Question Id : 9662315599 Question Type : MCQ Option Shuffling : Yes Display Question Number : Yes  
Single Line Question Option : No Option Orientation : Vertical

Correct Marks : 1 Wrong Marks : 0.25

निम्नलिखित प्रश्न में, चार विकल्पों में से, उस विकल्प का चयन करें जो दिए गए मुहावरे के लिए सही अर्थ वाला विकल्प है।

आ बैल मुझे मार

Options :

1. ✘ होश ठिकाने आना
2. ✘ टालमटोल करना
3. ✔ स्वयं झंझट सिर पर लेना
4. ✘ क्रोधित होना

Question Number : 190 Question Id : 9662315599 Question Type : MCQ Option Shuffling : Yes Display Question Number : Yes  
Single Line Question Option : No Option Orientation : Vertical

Correct Marks : 1 Wrong Marks : 0.25

निम्नलिखित प्रश्न में, चार विकल्पों में से, उस विकल्प का चयन करें जो दिए गए मुहावरे के लिए सही अर्थ वाला विकल्प है।

आ बैल मुझे मार

Options :

1. ✘ होश ठिकाने आना
2. ✘ टालमटोल करना
3. ✔ स्वयं झंझट सिर पर लेना
4. ✘ क्रोधित होना

Question Number : 191 Question Id : 9662315600 Question Type : MCQ Option Shuffling : Yes Display Question Number : Yes  
Single Line Question Option : No Option Orientation : Vertical

Correct Marks : 1 Wrong Marks : 0.25

निम्नलिखित प्रश्न में, चार विकल्पों में से, उस विकल्प का चयन करें जो दिए गए मुहावरे के लिए सही अर्थ वाला विकल्प है।

आव देखा न ताव

Options :

1. ✘ कुछ भी दिखाई न देना
2. ✘ अनजाने में
3. ✔ बिना सोचे- समझे
4. ✘ मुसीबत आना

Question Number : 191 Question Id : 9662315600 Question Type : MCQ Option Shuffling : Yes Display Question Number : Yes  
Single Line Question Option : No Option Orientation : Vertical

Correct Marks : 1 Wrong Marks : 0.25

निम्नलिखित प्रश्न में, चार विकल्पों में से, उस विकल्प का चयन करें जो दिए गए मुहावरे के लिए सही अर्थ वाला विकल्प है।

आव देखा न ताव

Options :

1. ✘ कुछ भी दिखाई न देना
2. ✘ अनजाने में
3. ✔ बिना सोचे- समझे
4. ✘ मुसीबत आना

Question Number : 192 Question Id : 9662315601 Question Type : MCQ Option Shuffling : Yes Display Question Number : Yes  
Single Line Question Option : No Option Orientation : Vertical

Correct Marks : 1 Wrong Marks : 0.25

निम्नलिखित प्रश्न में, चार विकल्पों में से, उस विकल्प का चयन करें जो दिए गए मुहावरे के लिए सही अर्थ वाला विकल्प है।

ईंट से ईंट बजाना

Options :

1. ✘ काम करना
2. ✔ नष्ट-भ्रष्ट कर देना
3. ✘ मजबूती देखना
4. ✘ बहुत शोर करना

Question Number : 192 Question Id : 9662315601 Question Type : MCQ Option Shuffling : Yes Display Question Number : Yes  
Single Line Question Option : No Option Orientation : Vertical

Correct Marks : 1 Wrong Marks : 0.25

निम्नलिखित प्रश्न में, चार विकल्पों में से, उस विकल्प का चयन करें जो दिए गए मुहावरे के लिए सही अर्थ वाला विकल्प है।

ईंट से ईंट बजाना

Options :

1. ✘ काम करना
2. ✔ नष्ट-भ्रष्ट कर देना
3. ✘ मजबूती देखना
4. ✘ बहुत शोर करना

Question Number : 193 Question Id : 9662315602 Question Type : MCQ Option Shuffling : Yes Display Question Number : Yes  
Single Line Question Option : No Option Orientation : Vertical

Correct Marks : 1 Wrong Marks : 0.25

निम्नलिखित प्रश्न में, चार विकल्पों में से, उस विकल्प का चयन करें जो दी गई लोकोक्ति के लिए सही अर्थ वाला विकल्प है।

आगे नाथ न पीछे पगहा

Options :

1. ✓ किसी तरह का उत्तरदायित्व नहीं
2. ✗ गरीब व्यक्ति
3. ✗ सब एक जैसे बुरे
4. ✗ मुसीबत खड़ी करना

Question Number : 193 Question Id : 9662315602 Question Type : MCQ Option Shuffling : Yes Display Question Number : Yes  
Single Line Question Option : No Option Orientation : Vertical

Correct Marks : 1 Wrong Marks : 0.25

निम्नलिखित प्रश्न में, चार विकल्पों में से, उस विकल्प का चयन करें जो दी गई लोकोक्ति के लिए सही अर्थ वाला विकल्प है।

आगे नाथ न पीछे पगहा

Options :

1. ✓ किसी तरह का उत्तरदायित्व नहीं
2. ✗ गरीब व्यक्ति
3. ✗ सब एक जैसे बुरे
4. ✗ मुसीबत खड़ी करना

Question Number : 194 Question Id : 9662315603 Question Type : MCQ Option Shuffling : Yes Display Question Number : Yes  
Single Line Question Option : No Option Orientation : Vertical

Correct Marks : 1 Wrong Marks : 0.25

निम्नलिखित प्रश्न में, चार विकल्पों में से, उस विकल्प का चयन करें जो दी गई लोकोक्ति के लिए सही अर्थ वाला विकल्प है।

न नौ मन तेल होगा, न राधा नाचेगी

Options :

1. ✓ न शर्त पूरी होगी न काम बनेगा
2. ✗ कमी होना
3. ✗ कारण के नष्ट होने पर काम भी न होना
4. ✗ धोखा खाना

Question Number : 194 Question Id : 9662315603 Question Type : MCQ Option Shuffling : Yes Display Question Number : Yes  
Single Line Question Option : No Option Orientation : Vertical

Correct Marks : 1 Wrong Marks : 0.25

निम्नलिखित प्रश्न में, चार विकल्पों में से, उस विकल्प का चयन करें जो दी गई लोकोक्ति के लिए सही अर्थ वाला विकल्प है।

न नौ मन तेल होगा, न राधा नाचेगी

Options :

1. ✓ न शर्त पूरी होगी न काम बनेगा
2. ✗ कमी होना
3. ✗ कारण के नष्ट होने पर काम भी न होना
4. ✗ धोखा खाना

Question Number : 195 Question Id : 9662315604 Question Type : MCQ Option Shuffling : Yes Display Question Number : Yes  
Single Line Question Option : No Option Orientation : Vertical

Correct Marks : 1 Wrong Marks : 0.25

निम्नलिखित प्रश्न में, चार विकल्पों में से, उस सही विकल्प का चयन करें जो दी गई लोकोक्ति के लिए सही अर्थ वाला विकल्प है।

नौ की लकड़ी नब्बे खर्च

Options :

1. ✘ महँगी वस्तु
2. ✔ वस्तु के मूल्य से अधिक उसकी मरम्मत में खर्च होना
3. ✘ महँगाई होना
4. ✘ किसी के भी बस में न होना

Question Number : 195 Question Id : 9662315604 Question Type : MCQ Option Shuffling : Yes Display Question Number : Yes  
Single Line Question Option : No Option Orientation : Vertical

Correct Marks : 1 Wrong Marks : 0.25

निम्नलिखित प्रश्न में, चार विकल्पों में से, उस सही विकल्प का चयन करें जो दी गई लोकोक्ति के लिए सही अर्थ वाला विकल्प है।

नौ की लकड़ी नब्बे खर्च

Options :

1. ✘ महँगी वस्तु
2. ✔ वस्तु के मूल्य से अधिक उसकी मरम्मत में खर्च होना
3. ✘ महँगाई होना
4. ✘ किसी के भी बस में न होना

Sub-Section Number: 2  
Sub-Section Id: 966231198  
Question Shuffling Allowed : Yes

Question Id : 9662315605 Question Type : COMPREHENSION Sub Question Shuffling Allowed : Yes Group Comprehension  
Questions : No

Question Numbers : (196 to 200)

Question Label : Comprehension

नीचे दिए गए गद्यांश को ध्यानपूर्वक पढ़ें और प्रश्न का सर्वोत्तम उत्तर चुनें।

मानव जातिने अपने उद्भवकाल से ही प्रकृति की गोद में ही जन्म लिया और उसी से अपने भरण-पोषण की सामग्री प्राप्त की। सभी प्रकार के वन्य या प्राकृतिक उपादान ही उसके जीवन और जीविका के एकमात्र साधन थे। प्रकृति ने ही मानव जीवन को संरक्षण प्रदान किया। रामचंद्र, सीता व लक्ष्मण ने भी पंचवटी नामक स्थान पर कुटिया बनाकर वनवास का लंबा समय व्यतीत किया था। वृक्षों की लकड़ी से मानव अनेक प्रकार के लाभ उठाता है। उसने लकड़ी को ईंधन के रूप में प्रयुक्त किया। इससे मकान व झोपड़ियाँ बनाईं। इमारती लकड़ी से भवन-निर्माण, कृषि-यंत्र, परिवहन; जैसे-रथ, ट्रक तथा रेलों के डिब्बे तथा फर्नीचर आदि बनाए जाते हैं। कोयला भी लकड़ी का प्रतिरूप है। वृक्षों की लकड़ी तथा उसके उत्पाद; जैसे-नारियल का जूट, लकड़ी का बुरादा, चीड़ की लकड़ी आदि विभिन्न वस्तुओं का प्रयोग फल, काँच के बर्तन आदि नाजुक पदार्थों की पैकिंग के लिए किया जाता है। इस प्रकार वृक्षों से विभिन्न प्रत्यक्ष लाभों के अतिरिक्त परोक्ष फायदे भी हैं। जीवनदायिनी ऑक्सीजन वृक्षों से ही प्राप्त होती है। वृक्षों के आधिक्य से बाढ़-नियंत्रण में सहायता मिलती है।

Sub questions

Question Number : 196 Question Id : 9662315606 Question Type : MCQ Option Shuffling : Yes Display Question Number : Yes  
Single Line Question Option : No Option Orientation : Vertical

Correct Marks : 1 Wrong Marks : 0.25

आदिकाल में मानव जीवन किस पर आधारित था?

Options :

1. ✘ फल-फूल
2. ✘ कल-कारखाने
3. ✔ वन्य या प्राकृतिक उपादान
4. ✘ कृषि-यंत्र

Question Number : 197 Question Id : 9662315607 Question Type : MCQ Option Shuffling : Yes Display Question Number : Yes  
Single Line Question Option : No Option Orientation : Vertical

Correct Marks : 1 Wrong Marks : 0.25

लकड़ी का प्रतिरूप क्या है?

Options :

- ✘ लकड़ी का बुरादा
- ✘ फर्नीचर
- ✘ नारियल का जूट
- ✔ कोयला

Question Number : 198 Question Id : 9662315608 Question Type : MCQ Option Shuffling : Yes Display Question Number : Yes Single Line Question Option : No Option Orientation : Vertical

Correct Marks : 1 Wrong Marks : 0.25

वृक्षों से परोक्ष फायदा किसमें हो सकता है?

Options :

- ✔ बाढ़-नियंत्रण
- ✘ फर्नीचर
- ✘ परिवहन
- ✘ भवन-निर्माण

Question Number : 199 Question Id : 9662315609 Question Type : MCQ Option Shuffling : Yes Display Question Number : Yes Single Line Question Option : No Option Orientation : Vertical

Correct Marks : 1 Wrong Marks : 0.25

इनमें से कौन - सा जीविका शब्द का पर्यायवाची शब्द नहीं है?

Options :

- ✘ व्यवसाय
- ✘ रोज़ी
- ✔ अतिरिक्त
- ✘ वृत्ति

Question Number : 200 Question Id : 9662315610 Question Type : MCQ Option Shuffling : Yes Display Question Number : Yes Single Line Question Option : No Option Orientation : Vertical

Correct Marks : 1 Wrong Marks : 0.25

इस अनुच्छेद का कोई उपयुक्त शीर्षक-

Options :

- ✘ मानव जीवन
- ✔ पेड़-पौधे और हमारा जीवन
- ✘ पंचवटी
- ✘ जीविका

Question Id : 9662315605 Question Type : COMPREHENSION Sub Question Shuffling Allowed : Yes Group Comprehension Questions : No

Question Numbers : (196 to 200)

Question Label : Comprehension

नीचे दिए गए गद्यांश को ध्यानपूर्वक पढ़ें और प्रश्न का सर्वोत्तम उत्तर चुनें।

मानव जातिने अपने उद्भवकाल से ही प्रकृति की गोद में ही जन्म लिया और उसी से अपने भरण-पोषण की सामग्री प्राप्त की। सभी प्रकार के वन्य या प्राकृतिक उत्पादन ही उसके जीवन और जीविका के एकमात्र साधन थे। प्रकृति ने ही मानव जीवन को संरक्षण प्रदान किया। रामचंद्र, सीता व लक्ष्मण ने भी पंचवटी नामक स्थान पर कुरिया बनाकर वनवास का लंबा समय व्यतीत किया था। वृक्षों की लकड़ी से मानव अनेक प्रकार के लाभ उठाता है। उसने लकड़ी को ईंधन के रूप में प्रयुक्त किया। इससे मकान व झोपड़ियाँ बनाईं। इमारती लकड़ी से भवन-निर्माण, कृषि-यंत्र, परिवहन, जैसे-रथ, ट्रक तथा रेलों के डिब्बे तथा फर्नीचर आदि बनाए जाते हैं। कोयला भी लकड़ी का प्रतिरूप है। वृक्षों की लकड़ी तथा उसके उत्पाद, जैसे-नारियल का जूट, लकड़ी का बुरादा, चीड़ की लकड़ी आदि विभिन्न वस्तुओं का प्रयोग फल, काँच के बर्तन आदि नाजुक पदार्थों की पैकिंग के लिए किया जाता है। इस प्रकार वृक्षों से विभिन्न प्रत्यक्ष लाभों के अतिरिक्त परोक्ष फायदे भी हैं। जीवनदायिनी ऑक्सीजन वृक्षों से ही प्राप्त होती है। वृक्षों के आधिक्य से बाढ़-नियंत्रण में सहायता मिलती है।

## Sub questions

Question Number : 196 Question Id : 9662315606 Question Type : MCQ Option Shuffling : Yes Display Question Number : Yes  
Single Line Question Option : No Option Orientation : Vertical

Correct Marks : 1 Wrong Marks : 0.25

आदिकाल में मानव जीवन किस पर आधारित था?

Options :

1. ✘ फल-फूल
2. ✘ कल-कारखाने
3. ✔ वन्य या प्राकृतिक उपादान
4. ✘ कृषि-यंत्र

Question Number : 197 Question Id : 9662315607 Question Type : MCQ Option Shuffling : Yes Display Question Number : Yes  
Single Line Question Option : No Option Orientation : Vertical

Correct Marks : 1 Wrong Marks : 0.25

लकड़ी का प्रतिरूप क्या है?

Options :

1. ✘ लकड़ी का बुरादा
2. ✘ फर्नीचर
3. ✘ नारियल का जूट
4. ✔ कोयला

Question Number : 198 Question Id : 9662315608 Question Type : MCQ Option Shuffling : Yes Display Question Number : Yes  
Single Line Question Option : No Option Orientation : Vertical

Correct Marks : 1 Wrong Marks : 0.25

वृक्षों से परोक्ष फायदा किसमें हो सकता है?

Options :

1. ✔ बाढ़-नियंत्रण
2. ✘ फर्नीचर
3. ✘ परिवहन
4. ✘ भवन-निर्माण

Question Number : 199 Question Id : 9662315609 Question Type : MCQ Option Shuffling : Yes Display Question Number : Yes  
Single Line Question Option : No Option Orientation : Vertical

Correct Marks : 1 Wrong Marks : 0.25

इनमें से कौन - सा जीविका शब्द का पर्यायवाची शब्द नहीं है?

Options :

1. ✘ व्यवसाय
2. ✘ रोज़ी
3. ✔ अतिरिक्त
4. ✘ वृत्ति

Question Number : 200 Question Id : 9662315610 Question Type : MCQ Option Shuffling : Yes Display Question Number : Yes  
Single Line Question Option : No Option Orientation : Vertical

Correct Marks : 1 Wrong Marks : 0.25

इस अनुच्छेद का कोई उपयुक्त शीर्षक-

Options :

1. ✘ मानव जीवन
2. ✔ पेड़-पौधे और हमारा जीवन



3. ✖ पंचवटी
4. ✖ जीविका