

Education Consultant India Ltd.

Notations :

1.Options shown in green color and with ✓ icon are correct.

2.Options shown in red color and with ✘ icon are incorrect.

Question Paper Name:	Lower Division Clerk 17th September 2019 Shift 1
Subject Name:	LOWER DIVISION CLERK
Creation Date:	2019-09-17 11:44:08
Duration:	120
Total Marks:	200
Display Marks:	Yes
Share Answer Key With Delivery Engine:	No
Actual Answer Key:	Yes
Calculator:	None
Magnifying Glass Required?:	No
Ruler Required?:	No
Eraser Required?:	No
Scratch Pad Required?:	No
Rough Sketch/Notepad Required?:	No
Protractor Required?:	No
Show Watermark on Console?:	Yes
Highlighter:	No
Auto Save on Console?:	No

Mental Ability1

Group Number :	1
Group Id :	5459271621
Group Maximum Duration :	0
Group Minimum Duration :	0
Show Attended Group? :	No
Edit Attended Group? :	No
Break time:	0
Group Marks:	20
Is this Group for Examiner?:	No
Revisit allowed for group Instructions? :	Yes
Maximum Instruction Time:	0
Minimum Instruction Time:	0

Mental Ability1

Section Id :	5459271621
Section Number :	1

Section type :	Online
Mandatory or Optional:	Mandatory
Number of Questions:	20
Number of Questions to be attempted:	20
Section Marks:	20

Sub-Section Number:	1
Sub-Section Id:	5459271945
Question Shuffling Allowed :	Yes

Question Number : 1 Question Id : 54592732725 Question Type : MCQ Option Shuffling : Yes
Correct Marks : 1 Wrong Marks : 0.25

Find the missing term in the following letter series:

MQ, _____, CG, XB

Options :

1. ✘ HM
2. ✔ HL
3. ✘ JK
4. ✘ JL

Question Number : 1 Question Id : 54592732725 Question Type : MCQ Option Shuffling : Yes
Correct Marks : 1 Wrong Marks : 0.25

निम्नलिखित अक्षर श्रृंखला में लुप्त पद ज्ञात करें:

MQ, _____, CG, XB

Options :

1. ✘ HM
2. ✔ HL
3. ✘ JK
4. ✘ JL

Question Number : 2 Question Id : 54592732726 Question Type : MCQ Option Shuffling : Yes
Correct Marks : 1 Wrong Marks : 0.25

Find the missing term in the following series:

M3L, P5O, S7R, ____

Options :

1. ✖ V12W
2. ✔ V9U
3. ✖ U12Y
4. ✖ U9X

Question Number : 2 Question Id : 54592732726 Question Type : MCQ Option Shuffling : Yes
Correct Marks : 1 Wrong Marks : 0.25

निम्नलिखित अक्षर श्रृंखला में लुप्त पद ज्ञात करें:

M3L, P5O, S7R, ____

Options :

1. ✖ V12W
2. ✔ V9U
3. ✖ U12Y
4. ✖ U9X

Question Number : 3 Question Id : 54592732727 Question Type : MCQ Option Shuffling : Yes
Correct Marks : 1 Wrong Marks : 0.25

Find the wrong term in the following series:

PNO, RPQ, TRS, VTW, XVW

Options :

1. ✖ PRQ
2. ✖ TRS
3. ✔ VTW

4. ✖ XVW

Question Number : 3 Question Id : 54592732727 Question Type : MCQ Option Shuffling : Yes
Correct Marks : 1 Wrong Marks : 0.25

निम्नलिखित श्रृंखला में गलत पद ज्ञात करें:

PNO, RPQ, TRS, VTW, XVW

Options :

1. ✖ PRQ

2. ✖ TRS

3. ✔ VTW

4. ✖ XVW

Question Number : 4 Question Id : 54592732728 Question Type : MCQ Option Shuffling : Yes
Correct Marks : 1 Wrong Marks : 0.25

Out of the given options, three are similar in a certain manner. However, one option is NOT like the other three. Select the option which is different from the rest.

Options :

1. ✔ Dogs

2. ✖ Peacocks

3. ✖ Parrots

4. ✖ Frogs

Question Number : 4 Question Id : 54592732728 Question Type : MCQ Option Shuffling : Yes
Correct Marks : 1 Wrong Marks : 0.25

दिए गए विकल्पों में से, तीन एक निश्चित तरीके से समान हैं। हालाँकि, एक विकल्प अन्य तीन की तरह नहीं है। उस विकल्प का चयन करें जो बाकी से अलग है।

Options :

1. ✓ कुत्ते
2. ✖ मोर
3. ✖ तोते
4. ✖ मेंढक

Question Number : 5 Question Id : 54592732729 Question Type : MCQ Option Shuffling : Yes
Correct Marks : 1 Wrong Marks : 0.25

Out of the given options, three are similar in a certain manner. However, one option is NOT like the other three. Select the option which is different from the rest.

Options :

1. ✖ LNI
2. ✖ HJE
3. ✓ QSO
4. ✖ XZU

Question Number : 5 Question Id : 54592732729 Question Type : MCQ Option Shuffling : Yes
Correct Marks : 1 Wrong Marks : 0.25

दिए गए विकल्पों में से, तीन एक निश्चित तरीके से समान हैं। हालाँकि, एक विकल्प अन्य तीन की तरह नहीं है। उस विकल्प का चयन करें जो बाकी से अलग है।

Options :

1. ✖ LNI
2. ✖ HJE
3. ✓ QSO
4. ✖ XZU

Question Number : 6 Question Id : 54592732730 Question Type : MCQ Option Shuffling : Yes
Correct Marks : 1 Wrong Marks : 0.25

In the given options 3 pair of words are similarly related and one pair is differently related. Find the pair which is differently related.

Options :

1. * Novice : Veteran
2. * Analysis : Synthesis
3. * Celestial : Earthly
4. ✓ Hallucination : Illusion

Question Number : 6 Question Id : 54592732730 Question Type : MCQ Option Shuffling : Yes

Correct Marks : 1 Wrong Marks : 0.25

दिए गए विकल्पों में 3 शब्दों के जोड़े एकसमान संबंधित हैं और एक जोड़ी अलग तरह से संबंधित है। उस जोड़ी को ज्ञात करें जो अलग तरह से संबंधित है।

Options :

1. * नौसिखिए : वयोवृद्ध
2. * विश्लेषण : संश्लेषण
3. * खगोलीय : सांसारिक
4. ✓ विभ्रान्ति : विभ्रम

Question Number : 7 Question Id : 54592732731 Question Type : MCQ Option Shuffling : Yes

Correct Marks : 1 Wrong Marks : 0.25

Select the option that is related to the third term on the same basis as the second term is related to the first term.

Buffalo : Mammal :: Lizard : ?

Options :

1. * Animal
2. ✓ Reptile
3. * Amphibian

4. * Arthropod

Question Number : 7 Question Id : 54592732731 Question Type : MCQ Option Shuffling : Yes
Correct Marks : 1 Wrong Marks : 0.25

उस विकल्प का चयन करें जो तीसरे पद से उसी प्रकार से संबंधित है जिस प्रकार से पहला पद दूसरे पद से संबंधित है।

भैंस : स्तनधारी :: छिपकली : ?

Options :

1. * जानवर
2. ✓ सरीसृप
3. * उभयचर
4. * संधिपाद

Question Number : 8 Question Id : 54592732732 Question Type : MCQ Option Shuffling : Yes
Correct Marks : 1 Wrong Marks : 0.25

Select the pair that is related on the same basis to the pair given in the question.

Gambler : Casino :: ?

Options :

1. * Professor : Teacher
2. ✓ Professor : University
3. * Professor : School
4. * Professor : Education

Question Number : 8 Question Id : 54592732732 Question Type : MCQ Option Shuffling : Yes
Correct Marks : 1 Wrong Marks : 0.25

उस जोड़ी का चयन करें जो उसी आधार पर संबंधित हों, जिस आधार पर सवाल में दी गई जोड़ी संबंधित हैं।

जुआरी : कैसिनो :: ?

Options :

1. * प्राध्यापक : अध्यापक
2. ✓ प्राध्यापक : विश्वविद्यालय
3. * प्राध्यापक : विद्यालय
4. * प्राध्यापक : शिक्षा

Question Number : 9 Question Id : 54592732733 Question Type : MCQ Option Shuffling : Yes
Correct Marks : 1 Wrong Marks : 0.25

Select the pair that is related on the same basis to the pair given in the question.

LRX : PVB :: ?

Options :

1. * CHM : GLP
2. * SNP : VMR
3. ✓ MTW : QXA
4. * LNR : PLZ

Question Number : 9 Question Id : 54592732733 Question Type : MCQ Option Shuffling : Yes
Correct Marks : 1 Wrong Marks : 0.25

उस जोड़ी का चयन करें जो उसी आधार पर संबंधित हों, जिस आधार पर सवाल में दी गई जोड़ी संबंधित हैं।

LRX : PVB :: ?

Options :

1. ✖ CHM : GLP

2. ✖ SNP : VMR

3. ✔ MTW : QXA

4. ✖ LNR : PLZ

Question Number : 10 Question Id : 54592732734 Question Type : MCQ Option Shuffling : Yes

Correct Marks : 1 Wrong Marks : 0.25

In a certain code language MISTER = 42, FLUTE = 30, ORANGES = 56, then what is the value of BEAUTIFUL?

Options :

1. ✖ 80

2. ✖ 85

3. ✔ 90

4. ✖ 72

Question Number : 10 Question Id : 54592732734 Question Type : MCQ Option Shuffling : Yes

Correct Marks : 1 Wrong Marks : 0.25

एक निश्चित कोड भाषा में, MISTER = 42, FLUTE = 30, ORANGES = 56 है, तो BEAUTIFUL का मूल्य क्या है?

Options :

1. ✖ 80

2. ✖ 85

3. ✔ 90

4. ✖ 72

Question Number : 11 Question Id : 54592732735 Question Type : MCQ Option Shuffling : Yes

Correct Marks : 1 Wrong Marks : 0.25

If plate is coded as cup, cup is coded as fork, fork is coded as spoon, spoon is coded as casserole, then what is used to drink tea?

Options :

1. ✖ spoon
2. ✔ fork
3. ✖ casserole
4. ✖ cup

Question Number : 11 Question Id : 54592732735 Question Type : MCQ Option Shuffling : Yes
Correct Marks : 1 Wrong Marks : 0.25

यदि प्लेट का कोड कप है, कप का कोड काँटा है, काँटे का कोड चम्मच है, चम्मच का कोड कैसरोल है, तो चाय पीने के लिए क्या इस्तेमाल किया जाता है?

Options :

1. ✖ चम्मच
2. ✔ काँटा
3. ✖ कैसरोल
4. ✖ कप

Question Number : 12 Question Id : 54592732736 Question Type : MCQ Option Shuffling : Yes
Correct Marks : 1 Wrong Marks : 0.25

In a certain code language,
si kan hi tap li means here is school bus stop
nat tap pa sat means he comes from school
sat li tan si means bus comes here late
hi nat li tap fi means school is far from here
What is the code for 'stop?'

Options :

1. ✔ kan
2. ✖ si
3. ✖ hi
4. ✖ tap

Question Number : 12 Question Id : 54592732736 Question Type : MCQ Option Shuffling : Yes

Correct Marks : 1 Wrong Marks : 0.25

एक निश्चित कोड भाषा में,

si kan hi tap li का अर्थ है here is school bus stop

nat tap pa sat का अर्थ है he comes from school

sat li tan si का अर्थ है bus comes here late

hi nat li tap fi का अर्थ है school is far from here

'stop' का कोड क्या है?

Options :

1. ✓ kan

2. ✗ si

3. ✗ hi

4. ✗ tap

Question Number : 13 Question Id : 54592732737 Question Type : MCQ Option Shuffling : Yes

Correct Marks : 1 Wrong Marks : 0.25

Allan, Bill, Charlie, David and Ethan are sitting on a bench facing the same direction. David is sitting to Bill's immediate right. Charlie is sitting to Ethan's immediate left. There is exactly one person sitting between David and Charlie. If Allan is not sitting at either end, who among these friends are sitting at the two ends of the bench?

Options :

1. ✓ Bill and Ethan

2. ✗ David and Charlie

3. ✗ David and Ethan

4. ✗ Bill and Charlie

Question Number : 13 Question Id : 54592732737 Question Type : MCQ Option Shuffling : Yes

Correct Marks : 1 Wrong Marks : 0.25

एलन, बिल, चार्ली, डेविड और एथन एक बेंच पर बैठे हैं। इन सभी का मुंह एक ही दिशा में है। डेविड, बिल के एकदम दाईं ओर बैठा है। चार्ली, एथन की बाईं ओर बैठा है जबकि डेविड और चार्ली के बीच ठीक एक व्यक्ति बैठा है। यदि एलन दोनों छोरों पर नहीं बैठा है, तो इन दोस्तों में से कौन बेंच के दोनों सिरों पर बैठा है?

Options :

1. ✓ बिल और एथन
2. ✗ डेविड और चार्ली
3. ✗ डेविड और एथन
4. ✗ बिल और चार्ली

Question Number : 14 Question Id : 54592732738 Question Type : MCQ Option Shuffling : Yes

Correct Marks : 1 Wrong Marks : 0.25

Students of a class scored marks as given below in a class test. Hetal scored 7 marks more than Ankita. Faizal scored 8 marks more than Krishna. Ankita scored 5 marks less than Ganga. Ganga scored 10 marks more than Krishna. If Faizal scored 43 marks, how many marks did Ankita score?

Options :

1. ✗ 42 marks
2. ✓ 40 marks
3. ✗ 38 marks
4. ✗ 39 marks

Question Number : 14 Question Id : 54592732738 Question Type : MCQ Option Shuffling : Yes

Correct Marks : 1 Wrong Marks : 0.25

एक कक्षा के छात्रों ने एक कक्षा परीक्षा में नीचे दिए गए अंकों की तरह अंक बनाए।

हेतल ने अंकिता से 7 अंक अधिक स्कोर किया। फैजल ने कृष्णा से 8 अंक अधिक स्कोर किया। अंकिता ने गंगा से 5 अंक कम स्कोर किया। गंगा ने कृष्णा से 10 अंक अधिक स्कोर किया। यदि फैजल ने 43 अंक स्कोर किए, तो अंकिता ने कितने अंक हासिल किए?

Options :

1. ✖ 42 अंक
2. ✔ 40 अंक
3. ✖ 38 अंक
4. ✖ 39 अंक

Question Number : 15 Question Id : 54592732739 Question Type : MCQ Option Shuffling : Yes
Correct Marks : 1 Wrong Marks : 0.25

In the given options 3 pair of words are similarly related and one pair is differently related. Find the pair which is differently related.

Options :

1. ✖ Dog - Kennel
2. ✔ Cow - Moo
3. ✖ Horse - Stable
4. ✖ Hen - Coop

Question Number : 15 Question Id : 54592732739 Question Type : MCQ Option Shuffling : Yes
Correct Marks : 1 Wrong Marks : 0.25

दिए गए विकल्पों में शब्दों की 3 जोड़ी समान रूप से सम्बंधित हैं, और एक जोड़ी अलग तरह से संबंधित है। उस जोड़ी को ज्ञात करें जो अलग तरह से संबंधित है।

Options :

1. * कुत्ता - कुत्ते का घर

2. ✓ गाय - मू

3. * घोडा - घुड़शाल

4. * मुर्गी - कूप

Question Number : 16 Question Id : 54592732740 Question Type : MCQ Option Shuffling : Yes
Correct Marks : 1 Wrong Marks : 0.25

Select the option that arranges the words given below in the most appropriate and meaningful sequence.

1. Forest

2. Branch

3. Tree

4. Leaf

Options :

1. ✓ 4-2-3-1

2. * 3-1-2-4

3. * 3-4-1-2

4. * 4-1-2-3

Question Number : 16 Question Id : 54592732740 Question Type : MCQ Option Shuffling : Yes
Correct Marks : 1 Wrong Marks : 0.25

नीचे दिए गए शब्दों को सबसे उपयुक्त और सार्थक अनुक्रम में व्यवस्थित करने वाले विकल्प का चयन करें।

1. Forest

2. Branch

3. Tree

4. Leaf

Options :

1. ✓ 4-2-3-1

2. ✗ 3-1-2-4

3. ✗ 3-4-1-2

4. ✗ 4-1-2-3

Question Number : 17 Question Id : 54592732741 Question Type : MCQ Option Shuffling : Yes

Correct Marks : 1 Wrong Marks : 0.25

The criteria for selecting a Branch Manager have been given as under:

The candidate must:

1. Be a graduate in any stream with at least 50% marks.
2. Be an MBA or hold a post-graduate diploma in any stream of management with 50% marks
3. Be between 30 and 45 years old on the date of application
4. Have branch managing experience of more than 3 years

The following exceptions apply:

- A. If a candidate meets all other criteria except 4 above, the candidate will be referred to the General Manager.
- B. A candidate whose age is more than 45 years but less than 50 years will be referred to the HR Head.

Shobha Kunwar is an Arts graduate with post-graduation in Personnel Management. She has scored more than 72% in graduation and 81% in post-graduation. She is 36 years of age. She has been the branch manager of the town branch of a reputed firm for more than 2.5 years.

What decision should be taken about this candidate?

Options :

1. * The candidate should be selected.
2. * The candidate should be rejected.
3. ✓ The candidate should be referred to the General Manager.
4. * The candidate should be referred to the HR Head.

Question Number : 17 Question Id : 54592732741 Question Type : MCQ Option Shuffling : Yes
Correct Marks : 1 Wrong Marks : 0.25

एक शाखा प्रबंधक के चयन के मानदंड निम्नानुसार दिए गए हैं:

उम्मीदवार को चाहिए:

1. कम से कम 50% अंकों के साथ किसी भी स्ट्रीम में स्नातक हो।
2. MBA हो या 50% अंकों के साथ मैनेजमेंट की किसी भी स्ट्रीम में स्नातकोत्तर डिप्लोमा हो।
3. आवेदन की तिथि 30 से 45 वर्ष के बीच हो।
4. 3 से अधिक वर्षों का शाखा प्रबंधन का अनुभव हो

निम्नलिखित अपवाद लागू होते हैं:

- A. यदि कोई उम्मीदवार उपरोक्त 4 को छोड़कर अन्य सभी मानदंडों को पूरा करता है, तो उम्मीदवार को महाप्रबंधक के पास भेजा जाएगा।
- B. एक उम्मीदवार जिसकी आयु 45 वर्ष से अधिक है, लेकिन 50 वर्ष से कम है, को HR मुखिया के पास भेजा जाएगा।

शोभा कुंवर कार्मिक प्रबंधन में स्नातकोत्तर के साथ आर्ट्स में स्नातक हैं। उसने स्नातक में 72% से अधिक और स्नातकोत्तर में 81% अंक प्राप्त किए हैं। उसकी उम्र 36 वर्ष है। वह 2.5 वर्ष से अधिक समय से एक प्रतिष्ठित फर्म की शहर शाखा की शाखा प्रबंधक है।

इस उम्मीदवार के बारे में क्या निर्णय लिया जाना चाहिए?

Options :

1. * उम्मीदवार का चयन होना चाहिए।
2. * उम्मीदवार को खारिज कर दिया जाना चाहिए।
3. ✓ उम्मीदवार को महाप्रबंधक, विपणन के पास भेजा जाना चाहिए।
4. * उम्मीदवार को HR हेड के पास मुखिया के पास जाना चाहिए।

Question Number : 18 Question Id : 54592732742 Question Type : MCQ Option Shuffling : Yes

Correct Marks : 1 Wrong Marks : 0.25

In this question, two statements have been given followed by two conclusions numbered I and II. Assuming that all information in the statement is true, analyse the two conclusions together and determine whether any of them logically and definitely follow(s) from the information given in the statement.

Statements:

- I. All boats are ships.
- II. No ships are submarines.

Conclusions:

- I. No submarine is a boat.
- II. Some submarines are boats.

Options :

1. ✓ Only conclusion I follows
2. * Only conclusion II follows
3. * Either conclusion I or conclusion II follows
4. * Neither conclusion I nor conclusion II follows

Question Number : 18 Question Id : 54592732742 Question Type : MCQ Option Shuffling : Yes

Correct Marks : 1 Wrong Marks : 0.25

इस प्रश्न में, दो कथन I और II के दो निष्कर्ष दिए गए हैं। यह मानते हुए कि कथन में सभी जानकारी सत्य हैं, दो निष्कर्षों का एक साथ विश्लेषण करें और निर्धारित करें कि कथन में दी गई जानकारी में से कोई भी तार्किक रूप से और निश्चित रूप से अनुसरण करता है।

कथन:

- I. सभी नावें जहाज हैं।
- II. कोई भी जहाज पनडुब्बी नहीं है।

निष्कर्ष:

- I. कोई पनडुब्बी एक नाव नहीं है।
- II. कुछ पनडुब्बी नावें हैं।

Options :

1. ✓ केवल निष्कर्ष I अनुसरण करता है।
2. ✗ केवल निष्कर्ष II अनुसरण करता है।
3. ✗ या तो निष्कर्ष I या निष्कर्ष II अनुसरण करता है।
4. ✗ न तो निष्कर्ष I और न ही निष्कर्ष II अनुसरण करता है।

Question Number : 19 Question Id : 54592732743 Question Type : MCQ Option Shuffling : Yes

Correct Marks : 1 Wrong Marks : 0.25

In this question, a statement has been given, followed by two courses of action numbered I and II. Assuming that everything in the statement is true, determine which of the suggested courses of action is/are logically worth pursuing.
Statement: Roads in the city got flooded, people got stranded and vehicles had to be abandoned after the rains lashed the city for over 4 hours.

Courses of Action:

- I. The municipal authority should have the drains cleaned up and lay larger storm drains for discharging flood water out of the city.
- II. General public should take steps to unclog the drainage system and plant more trees, harvest rainwater so that rain water run-off is minimised.

Options :

1. ✖ Only course of action I follows.
2. ✖ Only course of action II follows.
3. ✔ Both courses of action I and II follow.
4. ✖ Neither I nor II follows

Question Number : 19 Question Id : 54592732743 Question Type : MCQ Option Shuffling : Yes

Correct Marks : 1 Wrong Marks : 0.25

इस प्रश्न में, एक कथन दिया गया है, इसके बाद कार्यप्रणाली के दो पाठ्यक्रम । और ॥ दिए गए हैं। यह मानते हुए कि कथन में सब कुछ सत्य है, यह निर्धारित करें कि क्रिया के कौन से सुझाए गए पाठ्यक्रम तार्किक रूप से अनुसरण करने योग्य हैं।

कथन: शहर में सड़कें बह गई हैं, लोग फंसे हुए हैं और 4 घंटे से अधिक समय तक शहर में बारिश के बाद वाहनों को छोड़ना पड़ा।

कार्यप्रणाली के दौरान:

I. नगरपालिका प्राधिकरण को शहर से बाहर बाढ़ के पानी के निर्वहन के लिए नालियों की सफाई करनी चाहिए और बड़े तूफान वाले नालों को रखना चाहिए।

II. आम जनता को जलनिकास प्रणाली को बंद करने और अधिक से अधिक पेड़ लगाने, बारिश के पानी की कटाई करने के लिए कदम उठाने चाहिए ताकि बारिश के पानी का बहाव कम हो।

Options :

1. * केवल कार्यप्रणाली के दौरान । अनुसरण करता हैं।
2. * केवल ॥ कार्यप्रणाली के दौरान अनुसरण करता हैं।
3. ✓ कार्यप्रणाली के दौरान । और ॥ दोनों अनुसरण करते हैं।
4. * न । और ना ॥ ही अनुसरण करता है।

Question Number : 20 Question Id : 54592732744 Question Type : MCQ Option Shuffling : Yes
Correct Marks : 1 Wrong Marks : 0.25

Complete the following number series:

21.5, 23, 25.5, 29, _____

Options :

1. ✖ 32.5

2. ✖ 34

3. ✖ 31.25

4. ✔ 33.5

Question Number : 20 Question Id : 54592732744 Question Type : MCQ Option Shuffling : Yes
Correct Marks : 1 Wrong Marks : 0.25

निम्नलिखित संख्या श्रृंखला को पूरा करें:

21.5, 23, 25.5, 29, _____

Options :

1. ✖ 32.5

2. ✖ 34

3. ✖ 31.25

4. ✔ 33.5

Mental Ability2

Group Number :	2
Group Id :	5459271622
Group Maximum Duration :	0
Group Minimum Duration :	0
Show Attended Group? :	No
Edit Attended Group? :	No
Break time:	0
Group Marks:	20
Is this Group for Examiner?:	No
Revisit allowed for group Instructions? :	Yes
Maximum Instruction Time:	0
Minimum Instruction Time:	0

Mental Ability2

Section Id :	5459271622
Section Number :	1
Section type :	Online

Mandatory or Optional:	Mandatory
Number of Questions:	20
Number of Questions to be attempted:	20
Section Marks:	20

Sub-Section Number:	1
Sub-Section Id:	5459271946
Question Shuffling Allowed :	Yes

Question Number : 21 Question Id : 54592732745 Question Type : MCQ Option Shuffling : Yes
Correct Marks : 1 Wrong Marks : 0.25

Find the wrong number in the following number series:

8, 15, 25, 35, 48

Options :

1. ✖ 15

2. ✔ 25

3. ✖ 35

4. ✖ 48

Question Number : 21 Question Id : 54592732745 Question Type : MCQ Option Shuffling : Yes
Correct Marks : 1 Wrong Marks : 0.25

निम्नलिखित संख्या श्रृंखला में से गलत संख्या ज्ञात करें:

8, 15, 25, 35, 48

Options :

1. ✖ 15

2. ✔ 25

3. ✖ 35

4. ✖ 48

Question Number : 22 Question Id : 54592732746 Question Type : MCQ Option Shuffling : Yes
Correct Marks : 1 Wrong Marks : 0.25

Select the option that is related to the third number on the same basis as the second number is related to the first number.

$$5 : 24 :: 7 : ?$$

Options :

1. ✖ 47

2. ✖ 52

3. ✔ 48

4. ✖ 49

Question Number : 22 Question Id : 54592732746 Question Type : MCQ Option Shuffling : Yes

Correct Marks : 1 Wrong Marks : 0.25

उस विकल्प का चयन करें जो तीसरी संख्या से उसी प्रकार से संबंधित है जिस प्रकार से पहली संख्या दूसरी संख्या से संबंधित है।

$$5 : 24 :: 7 : ?$$

Options :

1. ✖ 47

2. ✖ 52

3. ✔ 48

4. ✖ 49

Question Number : 23 Question Id : 54592732747 Question Type : MCQ Option Shuffling : Yes

Correct Marks : 1 Wrong Marks : 0.25

Select the option that is related to the third number on the same basis as the second number is related to the first number.

12 : 106 :: 23 : ?

Options :

1. ✖ 208

2. ✖ 202

3. ✔ 205

4. ✖ 196

Question Number : 23 Question Id : 54592732747 Question Type : MCQ Option Shuffling : Yes

Correct Marks : 1 Wrong Marks : 0.25

उस विकल्प का चयन करें जो तीसरी संख्या से उसी प्रकार से संबंधित है जिस प्रकार से पहली संख्या दूसरी संख्या से संबंधित है।

12 : 106 :: 23 : ?

Options :

1. ✖ 208

2. ✖ 202

3. ✔ 205

4. ✖ 196

Question Number : 24 Question Id : 54592732748 Question Type : MCQ Option Shuffling : Yes

Correct Marks : 1 Wrong Marks : 0.25

Find the missing number in the following number series.

8, 27, 64, 125, _____, 343

Options :

1. ✖ 235

2. ✖ 242

3. ✔ 216

4. ✖ 225

Question Number : 24 Question Id : 54592732748 Question Type : MCQ Option Shuffling : Yes

Correct Marks : 1 Wrong Marks : 0.25

निम्नलिखित संख्या श्रृंखला में लुप्त संख्या को ज्ञात करें।

8, 27, 64, 125, _____, 343

Options :

1. ✖ 235

2. ✖ 242

3. ✔ 216

4. ✖ 225

Question Number : 25 Question Id : 54592732749 Question Type : MCQ Option Shuffling : Yes

Correct Marks : 1 Wrong Marks : 0.25

Find the missing number in the following number series.

10125, 2025, _____, 135, 45

Options :

1. ✖ 750

2. ✖ 625

3. ✖ 825

4. ✔ 675

Question Number : 25 Question Id : 54592732749 Question Type : MCQ Option Shuffling : Yes

Correct Marks : 1 Wrong Marks : 0.25

निम्नलिखित संख्या श्रृंखला में लुप्त संख्या को ज्ञात करें।

10125, 2025, _____, 135, 45

Options :

1. ✖ 750

2. ✖ 625

3. ✖ 825

4. ✔ 675

Question Number : 26 Question Id : 54592732750 Question Type : MCQ Option Shuffling : Yes

Correct Marks : 1 Wrong Marks : 0.25

If $3y - 6 > 21$, then which among the following is true?

Options :

1. ✖ $y > 6$

2. ✖ $y < 7$

3. ✖ $y < 5$

4. ✔ $y > 9$

Question Number : 26 Question Id : 54592732750 Question Type : MCQ Option Shuffling : Yes

Correct Marks : 1 Wrong Marks : 0.25

यदि $3y - 6 > 21$ है, तो निम्नलिखित में से कौन सा सत्य है?

Options :

1. ✖ $y > 6$

2. ✖ $y < 7$

3. ✖ $y < 5$

4. ✔ $y > 9$

Question Number : 27 Question Id : 54592732751 Question Type : MCQ Option Shuffling : Yes

Correct Marks : 1 Wrong Marks : 0.25

The total of the ages of Akash, Navin and Kailash is 60 years. What was the total of their ages three years ago?

Options :

1. ✖ 52 years
2. ✖ 57 years
3. ✖ 54 years
4. ✔ 51 years

Question Number : 27 Question Id : 54592732751 Question Type : MCQ Option Shuffling : Yes

Correct Marks : 1 Wrong Marks : 0.25

आकाश, नवीन और कैलाश की उम्र कुल 60 वर्ष है। तीन साल पहले उनकी उम्र कुल कितनी थी?

Options :

1. ✖ 52 वर्ष
2. ✖ 57 वर्ष
3. ✖ 54 वर्ष
4. ✔ 51 वर्ष

Question Number : 28 Question Id : 54592732752 Question Type : MCQ Option Shuffling : Yes

Correct Marks : 1 Wrong Marks : 0.25

A businessman earns an income of Rs. 1 on the first day of his business. On every subsequent day, he earns an income which is three times of that made on the previous day. What is his income on the 7th day?

Options :

1. ✖ Rs. 2187
2. ✔ Rs. 729
3. ✖ Rs. 243
4. ✖ Rs. 1458

Question Number : 28 Question Id : 54592732752 Question Type : MCQ Option Shuffling : Yes

Correct Marks : 1 Wrong Marks : 0.25

एक व्यवसायी अपने व्यवसाय के पहले दिन 1 रुपए की आय अर्जित करता है। उसके बाद प्रत्येक दिन, वह जो आय अर्जित करता है वो पिछले दिन की गई आय की तीन गुना होती है। 7 वें दिन उसकी आय क्या है?

Options :

1. ✖ 2187 रुपये
2. ✔ 729 रुपये
3. ✖ 243 रुपये
4. ✖ 1458 रुपये

Question Number : 29 Question Id : 54592732753 Question Type : MCQ Option Shuffling : Yes

Correct Marks : 1 Wrong Marks : 0.25

Which two numbers should be interchanged to make the below equation mathematically correct?

$$396 \div 4 + 6 - 5 \times 3 = 55$$

Options :

1. ✖ 5, 6
2. ✖ 6, 3
3. ✔ 4, 6
4. ✖ 4, 3

Question Number : 29 Question Id : 54592732753 Question Type : MCQ Option Shuffling : Yes

Correct Marks : 1 Wrong Marks : 0.25

नीचे दिए गए समीकरण को गणितीय रूप से सही बनाने के लिए किन दो संख्याओं को परस्पर स्थानांतरित किया जाना चाहिए?

$$396 \div 4 + 6 - 5 \times 3 = 55$$

Options :

1. ✖ 5, 6

2. ✖ 6, 3

3. ✔ 4, 6

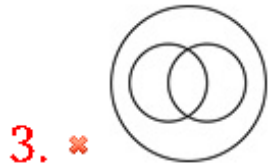
4. ✖ 4, 3

Question Number : 30 Question Id : 54592732754 Question Type : MCQ Option Shuffling : Yes

Correct Marks : 1 Wrong Marks : 0.25

Which of the following Venn diagrams best represents the relationship between Indians, humans and living things?

Options :

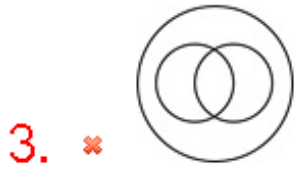


Question Number : 30 Question Id : 54592732754 Question Type : MCQ Option Shuffling : Yes

Correct Marks : 1 Wrong Marks : 0.25

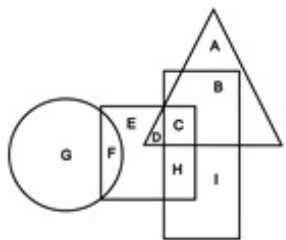
निम्नलिखित में से कौन सा वेन आरेख भारतीयों, मनुष्यों और जीवित चीजों के बीच के संबंध को सबसे अच्छा दर्शाता है?

Options :



Question Number : 31 Question Id : 54592732755 Question Type : MCQ Option Shuffling : Yes
Correct Marks : 1 Wrong Marks : 0.25

In the following figure, circle represents Asians, triangle represents astronomers, square represents physicians and rectangle represents women. Which set of letters represents women who are physicians?



Options :

1. ✗ BC

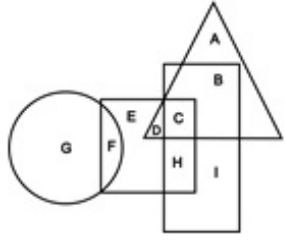
2. ✗ DC

3. ✗ F

4. ✓ CH

Question Number : 31 Question Id : 54592732755 Question Type : MCQ Option Shuffling : Yes
Correct Marks : 1 Wrong Marks : 0.25

निम्नलिखित आकृति में, वृत्त एशियाइयों को दर्शाता है, त्रिकोण खगोल विज्ञानियों को दर्शाता है, वर्ग चिकित्सकों को दर्शाता है और आयत महिलाओं को दर्शाता है। अक्षरों का कौन सा सेट महिलाओं को दर्शाता है जो चिकित्सक हैं?



Options :

1. ✗ BC
2. ✗ DC
3. ✗ F
4. ✓ CH

Question Number : 32 Question Id : 54592732756 Question Type : MCQ Option Shuffling : Yes
Correct Marks : 1 Wrong Marks : 0.25

A car is being parked in a housing society. It enters a gate that is facing West. Then it travels for 300 metres straight before turning 90 degrees in the anti-clockwise direction. It further travels for 200 metres, turns 90 degrees in the clockwise direction, goes for 5 metres and turns 90 degrees in the anti-clockwise direction. After going 50 metres, it stops. Which direction is the car facing finally?

Options :

1. ✗ South

2. ✖ East

3. ✔ North

4. ✖ West

Question Number : 32 Question Id : 54592732756 Question Type : MCQ Option Shuffling : Yes

Correct Marks : 1 Wrong Marks : 0.25

हाउसिंग सोसाइटी में कार खड़ी की जा रही है। यह एक गेट में प्रवेश करती है जो पश्चिम की ओर है। फिर यह वामावर्त दिशा में 90 डिग्री पर मुड़ने से पहले सीधे 300 मीटर जाती है। यह 200 मीटर और आगे जाती है, दक्षिणावर्त दिशा में 90 डिग्री पर मुड़ती है, 5 मीटर चलती है और 90 डिग्री में वामावर्त दिशा में मुड़ती है। 50 मीटर जाने के बाद, यह रूक जाती है।

कार का मुंह आखिरकार किस दिशा की ओर है?

Options :

1. ✖ दक्षिण

2. ✖ पूर्व

3. ✔ उत्तर

4. ✖ पश्चिम

Question Number : 33 Question Id : 54592732757 Question Type : MCQ Option Shuffling : Yes

Correct Marks : 1 Wrong Marks : 0.25

In this question, two statements are given followed by an inference. Analyse the statements and the inference and determine whether the given inference can be drawn from the statements.

Statements:

- I. Every dog likes to eat meat.
- II. Moti is a sheep dog.

Inference: Moti does not like to eat meat.

Options :

1. * The given inference is definitely true.
2. ✓ The given inference is definitely false.
3. * The given inference could be true or false.
4. * This inference cannot be drawn from the given statements.

Question Number : 33 Question Id : 54592732757 Question Type : MCQ Option Shuffling : Yes

Correct Marks : 1 Wrong Marks : 0.25

इस प्रश्न में, दो कथनों के बाद एक अनुमान लगाया जाता है। कथनों और अनुमानों का विश्लेषण करें और निर्धारित करें कि दिए गए अनुमानों को कथनों से निकाला जा सकता है या नहीं।

कथन:

- I. हर कुत्ते को मांस खाना पसंद है।
- II. मोती भेड़ों की रखवाली करनेवाला कुत्ता है।

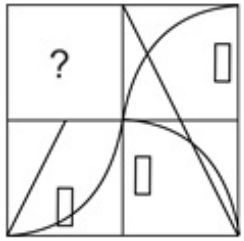
अनुमान: मोती को मांस खाना पसंद नहीं है।

Options :

1. ✖ दिया गया अनुमान सत्य है।
2. ✔ दिया गया अनुमान निश्चित रूप से असत्य है।
3. ✖ दिया गया अनुमान सत्य या असत्य हो सकता है।
4. ✖ यह अनुमान दिए गए कथन में लागू नहीं होता

Question Number : 34 Question Id : 54592732758 Question Type : MCQ Option Shuffling : Yes
 Correct Marks : 1 Wrong Marks : 0.25

Which answer figure will complete the pattern in the question figure?



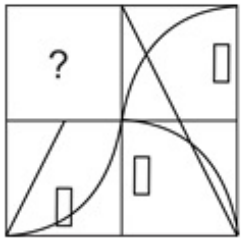
Options :



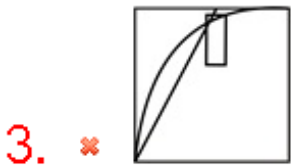
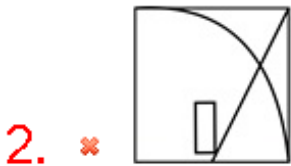
Question Number : 34 Question Id : 54592732758 Question Type : MCQ Option Shuffling : Yes

Correct Marks : 1 Wrong Marks : 0.25

कौन सी उत्तर आकृति प्रश्न आकृति के पैटर्न को पूरा करेगी?



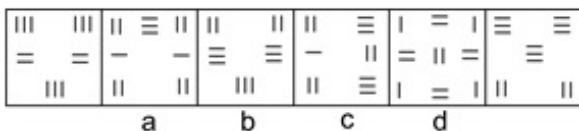
Options :



Question Number : 35 Question Id : 54592732759 Question Type : MCQ Option Shuffling : Yes

Correct Marks : 1 Wrong Marks : 0.25

Which of the following options shows incorrect order in the series?



Options :

1. ✖ A

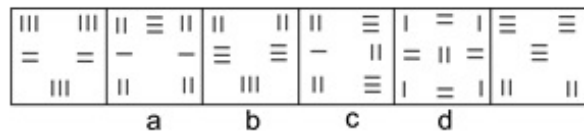
2. ✖ B

3. ✖ C

4. ✔ D

Question Number : 35 Question Id : 54592732759 Question Type : MCQ Option Shuffling : Yes
Correct Marks : 1 Wrong Marks : 0.25

निम्नलिखित में से कौन सी विकल्प श्रृंखला में गलत क्रम दिखाया गया है?



Options :

1. ✖ A

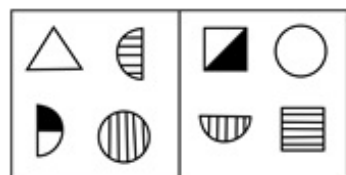
2. ✖ B

3. ✖ C

4. ✔ D

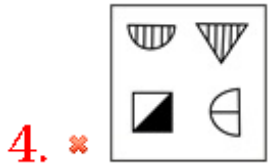
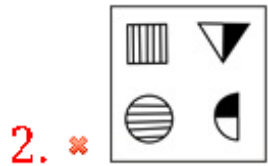
Question Number : 36 Question Id : 54592732760 Question Type : MCQ Option Shuffling : Yes
Correct Marks : 1 Wrong Marks : 0.25

Figures given in which of the options is most similar to the two figures given in the question?



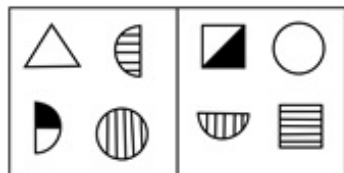
Options :





Question Number : 36 Question Id : 54592732760 Question Type : MCQ Option Shuffling : Yes
 Correct Marks : 1 Wrong Marks : 0.25

किस विकल्प में दी गई आकृतियाँ प्रश्न में दी गई दो आकृतियों से सबसे अधिक समानता रखती हैं?



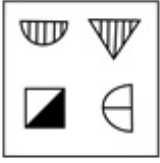
Options :



3. ✖

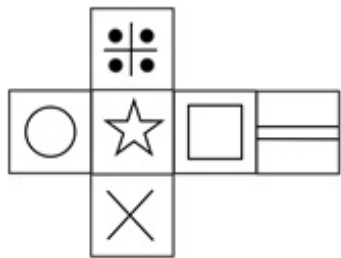


4. ✖



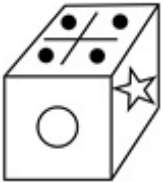
Question Number : 37 Question Id : 54592732761 Question Type : MCQ Option Shuffling : Yes
 Correct Marks : 1 Wrong Marks : 0.25

Which of the following cubes in the answer figure CANNOT be made based on the unfolded cube in the question figure?



Options :

1. ✖

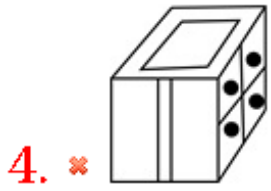


2. ✔



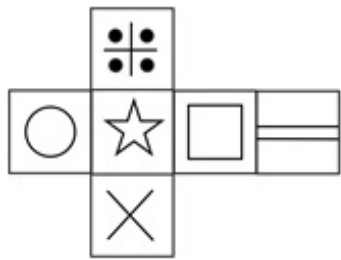
3. ✖



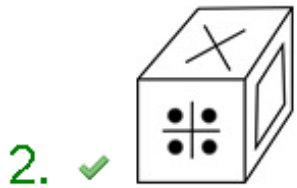
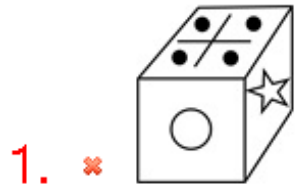


Question Number : 37 Question Id : 54592732761 Question Type : MCQ Option Shuffling : Yes
 Correct Marks : 1 Wrong Marks : 0.25

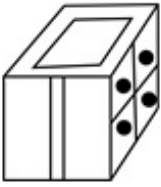
उत्तर आकृति में किस घन को प्रश्न आकृति में प्रकट घन के आधार पर नहीं बनाया जा सकता?



Options :

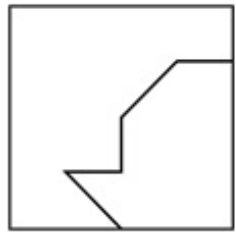


4. ✘



Question Number : 38 Question Id : 54592732762 Question Type : MCQ Option Shuffling : Yes
Correct Marks : 1 Wrong Marks : 0.25

From the given answer figures, select the one in which the question figure is hidden/embedded.

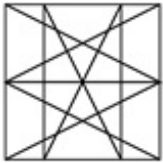


Options :

1. ✘



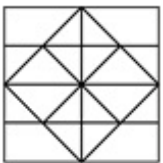
2. ✘



3. ✘

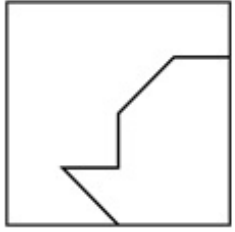


4. ✔

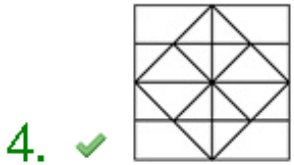
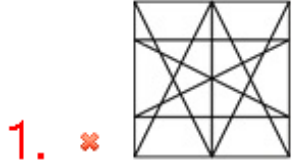


Question Number : 38 Question Id : 54592732762 Question Type : MCQ Option Shuffling : Yes
Correct Marks : 1 Wrong Marks : 0.25

दी गई उत्तर आकृतियों में से, उस एक का चयन करें जिसमें प्रश्न आकृति निहित है।



Options :

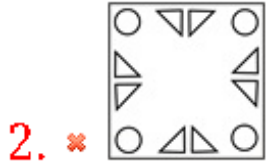
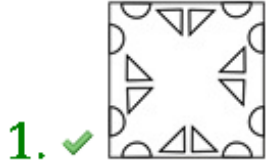


Question Number : 39 Question Id : 54592732763 Question Type : MCQ Option Shuffling : Yes
Correct Marks : 1 Wrong Marks : 0.25

A piece of paper is folded and punched as shown below in the question figures. From the given answer figures, indicate how it will appear when opened.



Options :

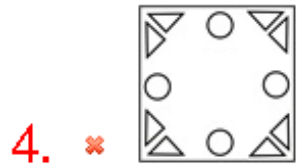
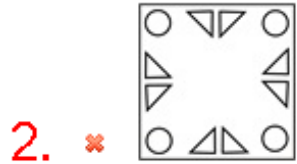
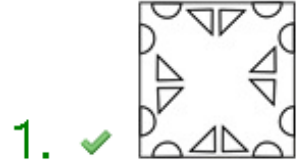


Question Number : 39 Question Id : 54592732763 Question Type : MCQ Option Shuffling : Yes
 Correct Marks : 1 Wrong Marks : 0.25

प्रश्न आकृति में नीचे दिखाए अनुसार पेपर के टुकड़े को मोड़कर उसमें छेद किए गए हैं। दी गई उत्तर आकृतियों से, इंगित करें कि इसे खोले जाने पर यह कैसा दिखाई देगा।

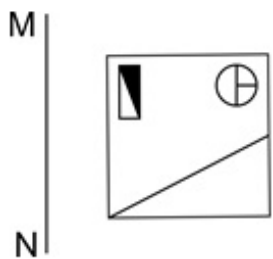


Options :

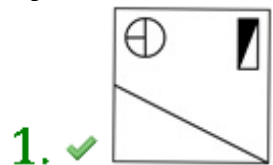


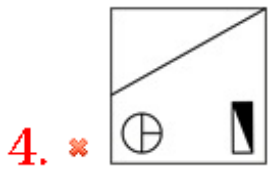
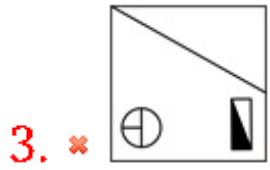
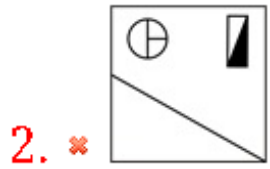
Question Number : 40 Question Id : 54592732764 Question Type : MCQ Option Shuffling : Yes
Correct Marks : 1 Wrong Marks : 0.25

If a mirror is placed on the line MN, then which of the answer figures will be the right mirror image of the given figure?



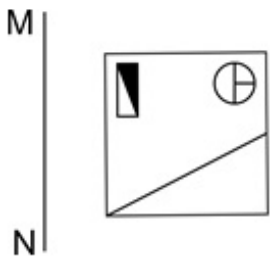
Options :



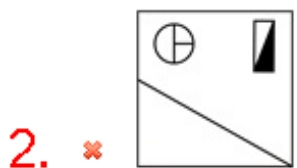
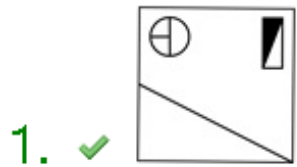


Question Number : 40 Question Id : 54592732764 Question Type : MCQ Option Shuffling : Yes
 Correct Marks : 1 Wrong Marks : 0.25

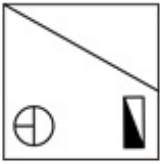
यदि एक दर्पण को रेखा MN पर रखा गया है, तो कौन सी उत्तर आकृति दी गई आकृति का सही दर्पण प्रतिबिंब होगी?



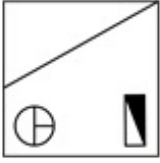
Options :



3. ✖



4. ✖



General Awareness1

Group Number :	3
Group Id :	5459271623
Group Maximum Duration :	0
Group Minimum Duration :	0
Show Attended Group? :	No
Edit Attended Group? :	No
Break time:	0
Group Marks:	20
Is this Group for Examiner?:	No
Revisit allowed for group Instructions? :	Yes
Maximum Instruction Time:	0
Minimum Instruction Time:	0

General Awareness1

Section Id :	5459271623
Section Number :	1
Section type :	Online
Mandatory or Optional:	Mandatory
Number of Questions:	20
Number of Questions to be attempted:	20
Section Marks:	20

Sub-Section Number:	1
Sub-Section Id:	5459271947
Question Shuffling Allowed :	Yes

Question Number : 41 Question Id : 54592732765 Question Type : MCQ Option Shuffling : Yes
Correct Marks : 1 Wrong Marks : 0.25

Which among the following dance forms is not associated with Arunachal Pradesh?

Options :

1. * Chalo
2. * Wancho
3. * Bardo Chham
4. ✓ Jhora

Question Number : 41 Question Id : 54592732765 Question Type : MCQ Option Shuffling : Yes

Correct Marks : 1 Wrong Marks : 0.25

निम्नलिखित में से कौन सा नृत्य रूप अरुणाचल प्रदेश से संबंधित नहीं है?

Options :

1. * चलो
2. * वांचो
3. * बरदो छम
4. ✓ झोरा

Question Number : 42 Question Id : 54592732766 Question Type : MCQ Option Shuffling : Yes

Correct Marks : 1 Wrong Marks : 0.25

_____ consists of Gramathisai (village folk music) and Gana (city folk music).

Options :

1. * Lavani
2. * Bhaavageet
3. ✓ Naatupura Paatu
4. * Pandavani

Question Number : 42 Question Id : 54592732766 Question Type : MCQ Option Shuffling : Yes

Correct Marks : 1 Wrong Marks : 0.25

_____ में ग्रामथिसाई (ग्रामीण लोक संगीत) और गण (शहर लोक संगीत) शामिल हैं।

Options :

1. ✖ लावणी
2. ✖ भावगीत
3. ✔ नातुपुरा पातु
4. ✖ पंडवानी

Question Number : 43 Question Id : 54592732767 Question Type : MCQ Option Shuffling : Yes
Correct Marks : 1 Wrong Marks : 0.25

Baisakhi is celebrated on _____ every year.

Options :

1. ✖ 10th March
2. ✔ 13th April
3. ✖ 15th May
4. ✖ 17th April

Question Number : 43 Question Id : 54592732767 Question Type : MCQ Option Shuffling : Yes
Correct Marks : 1 Wrong Marks : 0.25

बैसाखी हर साल _____ को मनाया जाता है।

Options :

1. ✖ 10 मार्च
2. ✔ 13 अप्रैल
3. ✖ 15 मई
4. ✖ 17 अप्रैल

Question Number : 44 Question Id : 54592732768 Question Type : MCQ Option Shuffling : Yes
Correct Marks : 1 Wrong Marks : 0.25

Hawa Mahal was built by _____.

Options :

1. ✓ Maharaja Sawai Pratap Singh

2. ✘ Akbar

3. ✘ Maharaja Rana Pratap Singh

4. ✘ Humayun

Question Number : 44 Question Id : 54592732768 Question Type : MCQ Option Shuffling : Yes
Correct Marks : 1 Wrong Marks : 0.25

हवा महल का निर्माण _____ द्वारा किया गया था।

Options :

1. ✓ महाराजा सवाई प्रताप सिंह

2. ✘ अकबर

3. ✘ महाराजा राणा प्रताप सिंह

4. ✘ हुमायूँ

Question Number : 45 Question Id : 54592732769 Question Type : MCQ Option Shuffling : Yes
Correct Marks : 1 Wrong Marks : 0.25

IMPS stands for _____.

Options :

1. ✓ Immediate Mobile Payment Service

2. ✘ Internet Mobile Programme Service

3. ✘ Internet Mobile Payment Service

4. ✘ Immediate Mobile Programme Service

Question Number : 45 Question Id : 54592732769 Question Type : MCQ Option Shuffling : Yes
Correct Marks : 1 Wrong Marks : 0.25

आईएमपीएस (IMPS) का पूर्ण प्रपत्र _____ है।

Options :

1. ✓ इमीडियेट मोबाइल पेमेंट सर्विस

2. ✘ इंटरनेट मोबाइल प्रोग्राम सर्विस

3. ✘ इंटरनेट मोबाइल पेमेंट सर्विस

4. * इमीडियेट मोबाइल प्रोग्राम सर्विस

Question Number : 46 Question Id : 54592732770 Question Type : MCQ Option Shuffling : Yes
Correct Marks : 1 Wrong Marks : 0.25

_____ measures changes over time in the general level of prices of goods and services that households acquire for the purpose of consumption.

Options :

1. * Wholesale Price Index
2. * GDP Deflator
3. ✓ Consumer Price Index
4. * Nominal Gross domestic product

Question Number : 46 Question Id : 54592732770 Question Type : MCQ Option Shuffling : Yes
Correct Marks : 1 Wrong Marks : 0.25

_____ सामानों और सेवाओं की कीमतों के सामान्य स्तर में समय के साथ परिवर्तन को मापता है जो घरों में उपभोग के उद्देश्य से प्राप्त किया जाता है।

Options :

1. * थोक मूल्य सूचकांक
2. * जीडीपी डिफाल्टर
3. ✓ उपभोक्ता मूल्य सूचकांक
4. * नाममात्र सकल घरेलू उत्पाद

Question Number : 47 Question Id : 54592732771 Question Type : MCQ Option Shuffling : Yes
Correct Marks : 1 Wrong Marks : 0.25

The first budget of the Republic of India was presented by

_____.

Options :

1. * H. M. Patel
2. * Yashwant Sinha

3. ✓ John Mathai

4. ✘ Morarji Desai

Question Number : 47 Question Id : 54592732771 Question Type : MCQ Option Shuffling : Yes

Correct Marks : 1 Wrong Marks : 0.25

भारत गणराज्य का पहला बजट _____ द्वारा प्रस्तुत किया गया था।

Options :

1. ✘ एच.एम. पटेल

2. ✘ यशवंत सिन्हा

3. ✓ जॉन मथाई

4. ✘ मोरारजी देसाई

Question Number : 48 Question Id : 54592732772 Question Type : MCQ Option Shuffling : Yes

Correct Marks : 1 Wrong Marks : 0.25

Motion of train is an example of _____ motion.

Options :

1. ✓ translatory

2. ✘ linear

3. ✘ circular

4. ✘ random

Question Number : 48 Question Id : 54592732772 Question Type : MCQ Option Shuffling : Yes

Correct Marks : 1 Wrong Marks : 0.25

रेलगाड़ी का चलना _____ गति का एक उदाहरण है।

Options :

1. ✓ रूपांतरित

2. ✘ रेखिक

3. ✘ वृत्ताकार

4. ✘ यादृच्छिक

Question Number : 49 Question Id : 54592732773 Question Type : MCQ Option Shuffling : Yes

Correct Marks : 1 Wrong Marks : 0.25

Which among the following is an example of Radiant Energy?

Options :

1. ✓ X-rays
2. ✗ Hot Springs
3. ✗ Clapping
4. ✗ Lightening

Question Number : 49 Question Id : 54592732773 Question Type : MCQ Option Shuffling : Yes

Correct Marks : 1 Wrong Marks : 0.25

निम्नलिखित में से कौन सी विकिरण ऊर्जा का एक उदाहरण है?

Options :

1. ✓ एक्स-रे
2. ✗ हॉट स्प्रिंग्स
3. ✗ ताली बजाना
4. ✗ बिजली चमकना

Question Number : 50 Question Id : 54592732774 Question Type : MCQ Option Shuffling : Yes

Correct Marks : 1 Wrong Marks : 0.25

Which among the following acids is weak acid?

Options :

1. ✗ Hydrochloric Acid
2. ✓ Sulphurous Acid
3. ✗ Nitric Acid
4. ✗ Chloric Acid

Question Number : 50 Question Id : 54592732774 Question Type : MCQ Option Shuffling : Yes

Correct Marks : 1 Wrong Marks : 0.25

निम्नलिखित में से कौन सा अम्ल कमजोर अम्ल है?

Options :

1. ✖ हाइड्रोक्लोरिक अम्ल

2. ✔ सल्फ्यूरस अम्ल

3. ✖ नाइट्रिक अम्ल

4. ✖ क्लोरिक अम्ल

Question Number : 51 Question Id : 54592732775 Question Type : MCQ Option Shuffling : Yes
Correct Marks : 1 Wrong Marks : 0.25

_____ are called naked seeded plants since the seed is not covered by fruit wall.

Options :

1. ✖ Bryophytes

2. ✖ Pteridophytes

3. ✖ Angiosperms

4. ✔ Gymnosperms

Question Number : 51 Question Id : 54592732775 Question Type : MCQ Option Shuffling : Yes
Correct Marks : 1 Wrong Marks : 0.25

_____ को नग्न बीज वाले पौधे कहा जाता है क्योंकि बीज को फल की दीवार द्वारा आवृत नहीं किया जाता।

Options :

1. ✖ ब्रायोफाइटा

2. ✖ टेरिडोफाइटा

3. ✖ आवृतबीजी

4. ✔ अनावृतबीजी

Question Number : 52 Question Id : 54592732776 Question Type : MCQ Option Shuffling : Yes
Correct Marks : 1 Wrong Marks : 0.25

The body of Ctenophora bears _____ external rows of ciliated comb plates.

Options :

1. * five
2. * four
3. ✓ eight
4. * ten

Question Number : 52 Question Id : 54592732776 Question Type : MCQ Option Shuffling : Yes
Correct Marks : 1 Wrong Marks : 0.25

टेनोफोरा का शरीर सिलिअरी कंघी प्लेटों की _____ बाहरी पंक्तियों को धारण करता है।

Options :

1. * पांच
2. * चार
3. ✓ आठ
4. * दस

Question Number : 53 Question Id : 54592732777 Question Type : MCQ Option Shuffling : Yes
Correct Marks : 1 Wrong Marks : 0.25

Which among the following is the second largest animal phylum after Arthropoda?

Options :

1. * Aschelminthes
2. * Annelida
3. * Arthropoda
4. ✓ Mollusca

Question Number : 53 Question Id : 54592732777 Question Type : MCQ Option Shuffling : Yes
Correct Marks : 1 Wrong Marks : 0.25

सन्धिपाद के बाद दूसरा सबसे बड़ा प्राणी संघ कौन सा है?

Options :

1. * एस्चेलमिन्थेस

2. ✖ ऐनेलिडा

3. ✖ सन्धिपाद

4. ✔ मोलस्का

Question Number : 54 Question Id : 54592732778 Question Type : MCQ Option Shuffling : Yes

Correct Marks : 1 Wrong Marks : 0.25

Which among the following gases is not a greenhouse gas?

Options :

1. ✖ Methane

2. ✖ Carbon dioxide

3. ✖ Nitrous oxide

4. ✔ Oxygen

Question Number : 54 Question Id : 54592732778 Question Type : MCQ Option Shuffling : Yes

Correct Marks : 1 Wrong Marks : 0.25

निम्नलिखित गैसों में से कौन सी ग्रीनहाउस गैस नहीं है?

Options :

1. ✖ मिथेन

2. ✖ कार्बन डाइऑक्साइड

3. ✖ दिवभूयाति जारेय

4. ✔ ऑक्सीजन

Question Number : 55 Question Id : 54592732779 Question Type : MCQ Option Shuffling : Yes

Correct Marks : 1 Wrong Marks : 0.25

The common name of Folic Acid is _____.

Options :

1. ✖ Vitamin B5

2. ✖ Vitamin B7

3. ✔ Vitamin B9

4. ✖ Vitamin B1

Question Number : 55 Question Id : 54592732779 Question Type : MCQ Option Shuffling : Yes
Correct Marks : 1 Wrong Marks : 0.25

फोलिक अम्ल का सामान्य नाम _____ है।

Options :

1. ✖ विटामिन B5
2. ✖ विटामिन B7
3. ✔ विटामिन B9
4. ✖ विटामिन B1

Question Number : 56 Question Id : 54592732780 Question Type : MCQ Option Shuffling : Yes
Correct Marks : 1 Wrong Marks : 0.25

_____ is also known as Dakshin Ganga.

Options :

1. ✔ Godavari
2. ✖ Narmada
3. ✖ Damodar
4. ✖ Yamuna

Question Number : 56 Question Id : 54592732780 Question Type : MCQ Option Shuffling : Yes
Correct Marks : 1 Wrong Marks : 0.25

_____ को दक्षिण गंगा के नाम से भी जाना जाता है।

Options :

1. ✔ गोदावरी
2. ✖ नर्मदा
3. ✖ दामोदर
4. ✖ यमुना

Question Number : 57 Question Id : 54592732781 Question Type : MCQ Option Shuffling : Yes
Correct Marks : 1 Wrong Marks : 0.25

Nanda Devi is the highest mountain of _____.

Options :

1. * Gangtok
2. * Sikkim
3. * Kashmir
4. ✓ Uttarakhand

Question Number : 57 Question Id : 54592732781 Question Type : MCQ Option Shuffling : Yes
Correct Marks : 1 Wrong Marks : 0.25

नंदा देवी _____ का सर्वोच्च पर्वत है।

Options :

1. * गंगटोक
2. * सिक्किम
3. * कश्मीर
4. ✓ उत्तराखंड

Question Number : 58 Question Id : 54592732782 Question Type : MCQ Option Shuffling : Yes
Correct Marks : 1 Wrong Marks : 0.25

Palk Strait connects Palk Bay with _____.

Options :

1. ✓ Bay of Bengal
2. * Atlantic Ocean
3. * Indian Ocean
4. * Pacific Ocean

Question Number : 58 Question Id : 54592732782 Question Type : MCQ Option Shuffling : Yes
Correct Marks : 1 Wrong Marks : 0.25

पल्क जलडमरूमध्य, पाक खाड़ी को _____ से जोड़ती है।

Options :

1. ✓ बंगाल की खाड़ी
2. * अटलांटिक महासागर
3. * हिंद महासागर

4. * प्रशांत महासागर

Question Number : 59 Question Id : 54592732783 Question Type : MCQ Option Shuffling : Yes
Correct Marks : 1 Wrong Marks : 0.25

_____ soil are also known as reh and kallar.

Options :

1. ✓ Saline And Alkaline
2. * Desert or Arid
3. * Laterite
4. * Red And Yellow

Question Number : 59 Question Id : 54592732783 Question Type : MCQ Option Shuffling : Yes
Correct Marks : 1 Wrong Marks : 0.25

_____ मृदा को रेह और कल्लर के नाम से भी जाना जाता है।

Options :

1. ✓ खारा और क्षारीय
2. * रेगिस्तान या शुष्क
3. * लैटेराइट
4. * लाल और पीला

Question Number : 60 Question Id : 54592732784 Question Type : MCQ Option Shuffling : Yes
Correct Marks : 1 Wrong Marks : 0.25

Which among the following crops is not a Zaid crop?

Options :

1. * Pumpkin
2. ✓ Barley
3. * Cucumber
4. * Bitter Gourd

Question Number : 60 Question Id : 54592732784 Question Type : MCQ Option Shuffling : Yes
Correct Marks : 1 Wrong Marks : 0.25

निम्नलिखित फसलों में से कौन सी फसल एक ज़ायद फसल नहीं है?

Options :

1. ✘ कद्दू

2. ✔ जौ

3. ✘ खीरा

4. ✘ करेला

General Awareness2

Group Number :	4
Group Id :	5459271624
Group Maximum Duration :	0
Group Minimum Duration :	0
Show Attended Group? :	No
Edit Attended Group? :	No
Break time:	0
Group Marks:	20
Is this Group for Examiner?:	No
Revisit allowed for group Instructions? :	Yes
Maximum Instruction Time:	0
Minimum Instruction Time:	0

General Awareness2

Section Id :	5459271624
Section Number :	1
Section type :	Online
Mandatory or Optional:	Mandatory
Number of Questions:	20
Number of Questions to be attempted:	20
Section Marks:	20

Sub-Section Number:	1
Sub-Section Id:	5459271948
Question Shuffling Allowed :	Yes

Question Number : 61 Question Id : 54592732785 Question Type : MCQ Option Shuffling : Yes

Correct Marks : 1 Wrong Marks : 0.25

Which among the following is not a neighbouring country of India?

Options :

1. * Sri Lanka
2. * Afghanistan
3. * Bhutan
4. ✓ Australia

Question Number : 61 Question Id : 54592732785 Question Type : MCQ Option Shuffling : Yes
Correct Marks : 1 Wrong Marks : 0.25

निम्नलिखित में से कौन सा देश भारत का पड़ोसी देश नहीं है?

Options :

1. * श्रीलंका
2. * अफ़ग़ानिस्तान
3. * भूटान
4. ✓ ऑस्ट्रेलिया

Question Number : 62 Question Id : 54592732786 Question Type : MCQ Option Shuffling : Yes
Correct Marks : 1 Wrong Marks : 0.25

_____ won the first battle of Tarain in 1191.

Options :

1. ✓ Prithviraj Chauhan
2. * Sultan Mohammad Ghori
3. * Shamshuddin Iltutmish
4. * Rana Singh

Question Number : 62 Question Id : 54592732786 Question Type : MCQ Option Shuffling : Yes
Correct Marks : 1 Wrong Marks : 0.25

_____ ने 1191 में तराइन का पहला युद्ध जीता था।

Options :

1. ✓ पृथ्वीराज चौहान
2. * सुल्तान मोहम्मद गोरी
3. * शमशुद्दीन इल्तुतमिश

4. * राणा सिंह

Question Number : 63 Question Id : 54592732787 Question Type : MCQ Option Shuffling : Yes
Correct Marks : 1 Wrong Marks : 0.25

Parmanand was the poet in the court of _____.

Options :

1. * Prithviraj Chauhan
2. ✓ Shivaji
3. * Harshavardhana
4. * Vikramaditya

Question Number : 63 Question Id : 54592732787 Question Type : MCQ Option Shuffling : Yes
Correct Marks : 1 Wrong Marks : 0.25

परमानंद _____ के दरबार में कवि था।

Options :

1. * पृथ्वीराज चौहान
2. ✓ शिवाजी
3. * हर्षवर्धन
4. * विक्रमादित्य

Question Number : 64 Question Id : 54592732788 Question Type : MCQ Option Shuffling : Yes
Correct Marks : 1 Wrong Marks : 0.25

Who was the founder of the Nanda Dynasty?

Options :

1. ✓ Mahapadma
2. * Dhana
3. * Panduka
4. * Bhuta-pala

Question Number : 64 Question Id : 54592732788 Question Type : MCQ Option Shuffling : Yes
Correct Marks : 1 Wrong Marks : 0.25

नंद राजवंश का संस्थापक कौन था?

Options :

1. ✓ महापद्म
2. ✘ धना
3. ✘ पांडुका
4. ✘ भूत-पाला

Question Number : 65 Question Id : 54592732789 Question Type : MCQ Option Shuffling : Yes
Correct Marks : 1 Wrong Marks : 0.25

_____ was the successor of Babur.

Options :

1. ✘ Shah Jahan
2. ✓ Humayun
3. ✘ Jahangir
4. ✘ Akbar

Question Number : 65 Question Id : 54592732789 Question Type : MCQ Option Shuffling : Yes
Correct Marks : 1 Wrong Marks : 0.25

_____ बाबर का उत्तराधिकारी था।

Options :

1. ✘ शाह जहाँ
2. ✓ हुमायूँ
3. ✘ जहांगीर
4. ✘ अकबर

Question Number : 66 Question Id : 54592732790 Question Type : MCQ Option Shuffling : Yes
Correct Marks : 1 Wrong Marks : 0.25

When was the first battle of Tarain fought?

Options :

1. ✘ 1196
2. ✓ 1191

3. * 1215

4. * 1150

Question Number : 66 Question Id : 54592732790 Question Type : MCQ Option Shuffling : Yes

Correct Marks : 1 Wrong Marks : 0.25

तराइन का पहला युद्ध कब लड़ा गया था?

Options :

1. * 1196

2. ✓ 1191

3. * 1215

4. * 1150

Question Number : 67 Question Id : 54592732791 Question Type : MCQ Option Shuffling : Yes

Correct Marks : 1 Wrong Marks : 0.25

Bhagat Singh was involved in the murder of _____ in order to avenge the death of Lala Lajpat Rai.

Options :

1. * Lord Hastings

2. * Mountbatten

3. * Lord Cornwallis

4. ✓ Mr. Saunders

Question Number : 67 Question Id : 54592732791 Question Type : MCQ Option Shuffling : Yes

Correct Marks : 1 Wrong Marks : 0.25

लाला लाजपत राय की मौत का बदला लेने के लिए भगत सिंह _____ की हत्या में शामिल था।

Options :

1. * लॉर्ड हेस्टिंग्स

2. * माउंटबेटन

3. * लॉर्ड कॉर्नवालिस

4. ✓ मि. सौन्डर्स

Question Number : 68 Question Id : 54592732792 Question Type : MCQ Option Shuffling : Yes
Correct Marks : 1 Wrong Marks : 0.25

"Playing It My Way" is the autobiography of _____.

Options :

1. ✓ Sachin Tendulkar
2. * Kapil Dev
3. * Yuvraj Singh
4. * Sania Mirza

Question Number : 68 Question Id : 54592732792 Question Type : MCQ Option Shuffling : Yes
Correct Marks : 1 Wrong Marks : 0.25

"प्लेइंग इट माई वे" _____ की आत्मकथा है।

Options :

1. ✓ सचिन तेंदुलकर
2. * कपिल देव
3. * युवराज सिंह
4. * सानिया मिर्जा

Question Number : 69 Question Id : 54592732793 Question Type : MCQ Option Shuffling : Yes
Correct Marks : 1 Wrong Marks : 0.25

Which among the following books is not written by Ruskin Bond?

Options :

1. * The Room on the Roof
2. * The Blue Umbrella
3. * Delhi Is Not Far
4. ✓ The Bachelor of Arts

Question Number : 69 Question Id : 54592732793 Question Type : MCQ Option Shuffling : Yes
Correct Marks : 1 Wrong Marks : 0.25

निम्नलिखित पुस्तकों में से कौनसी पुस्तक रस्किन बॉन्ड द्वारा नहीं लिखी गई है?

Options :

1. * द रूम ऑन द रूफ
2. * द ब्लू अम्ब्रेला
3. * डेल्ही इज़ नॉट फार
4. ✓ द बेचलर ऑफ़ आर्ट्स

Question Number : 70 Question Id : 54592732794 Question Type : MCQ Option Shuffling : Yes

Correct Marks : 1 Wrong Marks : 0.25

Resul Pookutty won the Oscar for the Best Sound Mixing for _____.

Options :

1. * Gandhi
2. ✓ Slumdog Millionaire
3. * Mother India
4. * Salaam Bombay

Question Number : 70 Question Id : 54592732794 Question Type : MCQ Option Shuffling : Yes

Correct Marks : 1 Wrong Marks : 0.25

रेसुल पुकुट्टी ने _____ के लिए सर्वश्रेष्ठ ध्वनि मिश्रण के लिए ऑस्कर जीता।

Options :

1. * गांधी
2. ✓ स्लमडॉग मिलियनेयर
3. * मदर इंडिया
4. * सलाम बॉम्बे

Question Number : 71 Question Id : 54592732795 Question Type : MCQ Option Shuffling : Yes

Correct Marks : 1 Wrong Marks : 0.25

Which among the following films won the Filmfare 2019 in the category of Critics Best Film?

Options :

1. * Padmaavat
2. * Sanju
3. * Raazi
4. ✓ Andhadhun

Question Number : 71 Question Id : 54592732795 Question Type : MCQ Option Shuffling : Yes

Correct Marks : 1 Wrong Marks : 0.25

निम्नलिखित में से किस फिल्म ने क्रिटिक्स सर्वश्रेष्ठ फिल्म की श्रेणी में फिल्मफेयर 2019 जीता?

Options :

1. * पद्मावत
2. * संजू
3. * राज़ी
4. ✓ अंधाधुन

Question Number : 72 Question Id : 54592732796 Question Type : MCQ Option Shuffling : Yes

Correct Marks : 1 Wrong Marks : 0.25

Who is the chairman of the National Skill Development Corporation as of June 2019?

Options :

1. ✓ Anil Manibhai Naik
2. * C.D. Deshmukh
3. * Dr. K.P. Krishnan
4. * Sunita Sanghi

Question Number : 72 Question Id : 54592732796 Question Type : MCQ Option Shuffling : Yes

Correct Marks : 1 Wrong Marks : 0.25

जून 2019 तक राष्ट्रीय कौशल विकास निगम के अध्यक्ष कौन हैं?

Options :

1. ✓ अनिल मणिभाई नायक
2. ✘ सी.डी. देशमुख
3. ✘ डॉ. के.पी. कृष्णन
4. ✘ सुनीता सांघी

Question Number : 73 Question Id : 54592732797 Question Type : MCQ Option Shuffling : Yes
Correct Marks : 1 Wrong Marks : 0.25

The largest number of International Monetary Fund loans have gone to _____ continent.

Options :

1. ✘ Asian
2. ✓ African
3. ✘ American
4. ✘ Australian

Question Number : 73 Question Id : 54592732797 Question Type : MCQ Option Shuffling : Yes
Correct Marks : 1 Wrong Marks : 0.25

अन्तर्राष्ट्रीय मुद्रा कोष ऋण की सबसे बड़ी संख्या _____ महाद्वीप में चली गई है।

Options :

1. ✘ एशियाई
2. ✓ अफ्रीकी
3. ✘ अमेरिकी
4. ✘ ऑस्ट्रेलियाई

Question Number : 74 Question Id : 54592732798 Question Type : MCQ Option Shuffling : Yes
Correct Marks : 1 Wrong Marks : 0.25

Which among the following amendments increased the ceiling of professional tax?

Options :

1. ✖ 55th

2. ✔ 60th

3. ✖ 61st

4. ✖ 56th

Question Number : 74 Question Id : 54592732798 Question Type : MCQ Option Shuffling : Yes
Correct Marks : 1 Wrong Marks : 0.25

निम्नलिखित संशोधनों में से किसने व्यवसाय कर की सीमा बढ़ा दी?

Options :

1. ✖ 55 वें

2. ✔ 60 वें

3. ✖ 61 वें

4. ✖ 56 वें

Question Number : 75 Question Id : 54592732799 Question Type : MCQ Option Shuffling : Yes
Correct Marks : 1 Wrong Marks : 0.25

The constitution of India was adopted on the _____.

Options :

1. ✖ 26th March 1949

2. ✖ 26th December 1952

3. ✖ 26th January 1948

4. ✔ 26th November 1949

Question Number : 75 Question Id : 54592732799 Question Type : MCQ Option Shuffling : Yes
Correct Marks : 1 Wrong Marks : 0.25

भारत के संविधान को _____ को अपनाया गया था।

Options :

1. ✖ 26 मार्च 1949

2. ✖ 26 दिसंबर 1952

3. ✖ 26 जनवरी 1948

4. ✓ 26 नवंबर 1949

Question Number : 76 Question Id : 54592732800 Question Type : MCQ Option Shuffling : Yes
Correct Marks : 1 Wrong Marks : 0.25

First Rajya Sabha was convened in _____ in Independent India.

Options :

1. ✓ 1952

2. ✗ 1965

3. ✗ 1955

4. ✗ 1950

Question Number : 76 Question Id : 54592732800 Question Type : MCQ Option Shuffling : Yes
Correct Marks : 1 Wrong Marks : 0.25

स्वतंत्र भारत में _____ को पहली राज्यसभा बुलाई गई थी।

Options :

1. ✓ 1952

2. ✗ 1965

3. ✗ 1955

4. ✗ 1950

Question Number : 77 Question Id : 54592732801 Question Type : MCQ Option Shuffling : Yes
Correct Marks : 1 Wrong Marks : 0.25

Which schedule was added by the 73rd Amendment Act of 1992?

Options :

1. ✗ Eighth

2. ✗ Tenth

3. ✓ Eleventh

4. ✗ Sixth

Question Number : 77 Question Id : 54592732801 Question Type : MCQ Option Shuffling : Yes

Correct Marks : 1 Wrong Marks : 0.25

1992 के 73 वें संशोधन अधिनियम द्वारा किस अनुसूची को जोड़ा गया?

Options :

1. * आठवाँ
2. * दसवां
3. ✓ ग्यारहवाँ
4. * छठा

Question Number : 78 Question Id : 54592732802 Question Type : MCQ Option Shuffling : Yes

Correct Marks : 1 Wrong Marks : 0.25

Who won the Asian Snooker Championship in 2019?

Options :

1. ✓ Pankaj Advani
2. * Asjad Iqbal
3. * Thanawat Tirapongpaiboon
4. * Mark Selby

Question Number : 78 Question Id : 54592732802 Question Type : MCQ Option Shuffling : Yes

Correct Marks : 1 Wrong Marks : 0.25

2019 में एशियाई स्नूकर चैम्पियनशिप किसने जीती?

Options :

1. ✓ पंकज आडवाणी
2. * असजद इकबाल
3. * थानावत तिरपोंगपाइबून
4. * मार्क सेल्बी

Question Number : 79 Question Id : 54592732803 Question Type : MCQ Option Shuffling : Yes

Correct Marks : 1 Wrong Marks : 0.25

Gagan Narang won a bronze medal in 2012 Olympics for

_____.

Options :

1. ✖ boxing
2. ✔ shooting
3. ✖ wrestling
4. ✖ badminton

Question Number : 79 Question Id : 54592732803 Question Type : MCQ Option Shuffling : Yes

Correct Marks : 1 Wrong Marks : 0.25

गगन नारंग ने _____ के लिए 2012 ओलंपिक में कांस्य पदक जीता था।

Options :

1. ✖ मुक्केबाज़ी
2. ✔ शूटिंग
3. ✖ कुश्ती
4. ✖ बैडमिंटन

Question Number : 80 Question Id : 54592732804 Question Type : MCQ Option Shuffling : Yes

Correct Marks : 1 Wrong Marks : 0.25

Sakshi Malik won a bronze medal in 2016 Olympics for

_____.

Options :

1. ✖ boxing
2. ✖ shooting
3. ✔ wrestling
4. ✖ badminton

Question Number : 80 Question Id : 54592732804 Question Type : MCQ Option Shuffling : Yes

Correct Marks : 1 Wrong Marks : 0.25

साक्षी मलिक ने 2016 ओलंपिक में _____ के लिए कांस्य पदक जीता।

Options :

1. ✖ मुक्केबाज़ी
2. ✖ शूटिंग
3. ✔ कुश्ती
4. ✖ बैडमिंटन

Arithmetic Ability1

Group Number :	5
Group Id :	5459271625
Group Maximum Duration :	0
Group Minimum Duration :	0
Show Attended Group? :	No
Edit Attended Group? :	No
Break time:	0
Group Marks:	20
Is this Group for Examiner? :	No
Revisit allowed for group Instructions? :	Yes
Maximum Instruction Time:	0
Minimum Instruction Time:	0

Arithmetic Ability1

Section Id :	5459271625
Section Number :	1
Section type :	Online
Mandatory or Optional:	Mandatory
Number of Questions:	20
Number of Questions to be attempted:	20
Section Marks:	20

Sub-Section Number:	1
Sub-Section Id:	5459271949
Question Shuffling Allowed :	Yes

Question Number : 81 Question Id : 54592732805 Question Type : MCQ Option Shuffling : Yes
Correct Marks : 1 Wrong Marks : 0.25

Find the value of x:

$$8 \times 16 \div X - 4 \times 15 = 4$$

Options :

1. ✖ 1

2. ✔ 2

3. ✖ 3

4. ✖ 4

Question Number : 81 Question Id : 54592732805 Question Type : MCQ Option Shuffling : Yes

Correct Marks : 1 Wrong Marks : 0.25

X का मान ज्ञात करें:

$$8 \times 16 \div X - 4 \times 15 = 4$$

Options :

1. ✖ 1

2. ✔ 2

3. ✖ 3

4. ✖ 4

Question Number : 82 Question Id : 54592732806 Question Type : MCQ Option Shuffling : Yes

Correct Marks : 1 Wrong Marks : 0.25

Convert 57 decimal to binary.

Options :

1. ✔ 111001

2. ✖ 111011

3. ✖ 110001

4. ✖ 100111

Question Number : 82 Question Id : 54592732806 Question Type : MCQ Option Shuffling : Yes

Correct Marks : 1 Wrong Marks : 0.25

57 दशमलव को बाइनरी में बदलें।

Options :

1. ✓ 111001

2. ✗ 111011

3. ✗ 110001

4. ✗ 100111

Question Number : 83 Question Id : 54592732807 Question Type : MCQ Option Shuffling : Yes

Correct Marks : 1 Wrong Marks : 0.25

Which number's square when multiplied by 6 will be exactly divisible by 24, 25 and 30?

Options :

1. ✗ 5

2. ✗ 8

3. ✓ 10

4. ✗ 15

Question Number : 83 Question Id : 54592732807 Question Type : MCQ Option Shuffling : Yes

Correct Marks : 1 Wrong Marks : 0.25

6 से गुणा करने पर किस संख्या का वर्ग 24, 25 और 30 से पूर्णतया विभाज्य हो जाएगा?

Options :

1. ✗ 5

2. ✗ 8

3. ✓ 10

4. ✗ 15

Question Number : 84 Question Id : 54592732808 Question Type : MCQ Option Shuffling : Yes

Correct Marks : 1 Wrong Marks : 0.25

Find the value of:

$$(9 \times 3 \div 13.5) \times (4 + 6 \div 3) - (8 \div 4 \times 2) = ?$$

Options :

1. ✖ 2

2. ✖ 4

3. ✖ 6

4. ✔ 8

Question Number : 84 Question Id : 54592732808 Question Type : MCQ Option Shuffling : Yes

Correct Marks : 1 Wrong Marks : 0.25

$$(9 \times 3 \div 13.5) \times (4 + 6 \div 3) - (8 \div 4 \times 2) = ? \text{ का मूल्य ज्ञात करें।}$$

Options :

1. ✖ 2

2. ✖ 4

3. ✖ 6

4. ✔ 8

Question Number : 85 Question Id : 54592732809 Question Type : MCQ Option Shuffling : Yes

Correct Marks : 1 Wrong Marks : 0.25

What is the largest 5-digit number divisible by 4, 5, 6 and 8?

Options :

1. ✖ 96000

2. ✖ 99600

3. ✔ 99960

4. ✖ 99840

Question Number : 85 Question Id : 54592732809 Question Type : MCQ Option Shuffling : Yes

Correct Marks : 1 Wrong Marks : 0.25

4, 5, 6 और 8 द्वारा विभाजित सबसे बड़ी 5 -अंकीय संख्या क्या है?

Options :

1. ✖ 96000

2. ✖ 99600

3. ✔ 99960

4. ✖ 99840

Question Number : 86 Question Id : 54592732810 Question Type : MCQ Option Shuffling : Yes

Correct Marks : 1 Wrong Marks : 0.25

Find the sum of digits of the largest 5 - digit number divisible by 12, 15, 20 and 25.

Options :

1. ✔ 27

2. ✖ 36

3. ✖ 18

4. ✖ 20

Question Number : 86 Question Id : 54592732810 Question Type : MCQ Option Shuffling : Yes

Correct Marks : 1 Wrong Marks : 0.25

12, 15, 20 और 25 द्वारा विभाजित सबसे बड़ी 5-अंकीय संख्या के अंकों का योग ज्ञात कीजिए।

Options :

1. ✔ 27

2. ✖ 36

3. ✖ 18

4. ✖ 20

Question Number : 87 Question Id : 54592732811 Question Type : MCQ Option Shuffling : Yes

Correct Marks : 1 Wrong Marks : 0.25

A number is divided by 24, 25, 30 and 40. It leaves a remainder of 5 in each case. Find the smallest possible value of such a number.

Options :

1. ✖ 1205
2. ✖ 2405
3. ✖ 3605
4. ✔ 605

Question Number : 87 Question Id : 54592732811 Question Type : MCQ Option Shuffling : Yes
Correct Marks : 1 Wrong Marks : 0.25

एक संख्या को 24, 25, 30 और 40 से विभाजित किया जाता है। इसमें प्रत्येक मामले में 5 शेष रहते हैं। ऐसी संख्या का सबसे छोटा संभव मान ज्ञात कीजिए।

Options :

1. ✖ 1205
2. ✖ 2405
3. ✖ 3605
4. ✔ 605

Question Number : 88 Question Id : 54592732812 Question Type : MCQ Option Shuffling : Yes
Correct Marks : 1 Wrong Marks : 0.25

Three runners X, Y and Z practice around a circular path. For completion of 1 round, they take 132, 110 and 88 seconds respectively. After how much time will the runners be at the starting point again?

Options :

1. ✖ 11 minutes
2. ✖ 16.5 minutes
3. ✔ 22 minutes
4. ✖ 33 minutes

Question Number : 88 Question Id : 54592732812 Question Type : MCQ Option Shuffling : Yes
Correct Marks : 1 Wrong Marks : 0.25

तीन धावक X, Y और Z एक वृत्ताकार पथ के चारों तरफ अभ्यास करते हैं। 1 चक्कर पूरा होने के लिए, वे क्रमशः 132, 110 और 88 सेकंड लेते हैं। कितने समय बाद वे धावक फिर से शुरुआती बिंदु पर होंगे?

Options :

1. ✖ 11 मिनट
2. ✖ 16.5 मिनट
3. ✓ 22 मिनट
4. ✖ 33 मिनट

Question Number : 89 Question Id : 54592732813 Question Type : MCQ Option Shuffling : Yes

Correct Marks : 1 Wrong Marks : 0.25

The difference of 2 numbers a and b is 4 and their HCF and LCM are 4 and 24 respectively. What is the positive difference of their reciprocals?

Options :

1. ✖ $1/4$
2. ✖ $1/8$
3. ✖ $1/12$
4. ✓ $1/24$

Question Number : 89 Question Id : 54592732813 Question Type : MCQ Option Shuffling : Yes

Correct Marks : 1 Wrong Marks : 0.25

2 संख्या a और b का अंतर 4 है और उनके महत्तम समापवर्तक और लघुत्तम समापवर्तक क्रमशः 4 और 24 हैं। उनके व्युत्क्रमों का धनात्मक अंतर क्या है?

Options :

1. ✖ $1/4$
2. ✖ $1/8$

3. ✖ 1/12

4. ✔ 1/24

Question Number : 90 Question Id : 54592732814 Question Type : MCQ Option Shuffling : Yes
Correct Marks : 1 Wrong Marks : 0.25

A farmer raises chickens and horses on a farm. In total he has 51 animals whereas the total number of legs are 156. Find the number of horses he has.

Options :

1. ✖ 21

2. ✖ 24

3. ✔ 27

4. ✖ 30

Question Number : 90 Question Id : 54592732814 Question Type : MCQ Option Shuffling : Yes
Correct Marks : 1 Wrong Marks : 0.25

एक किसान एक खेत में मुर्गियों और घोड़ों को पालता है। उसके पास कुल 51 जानवर हैं जबकि पैरों की कुल संख्या 156 है। उसके पास स्थित घोड़ों की संख्या ज्ञात करें।

Options :

1. ✖ 21

2. ✖ 24

3. ✔ 27

4. ✖ 30

Question Number : 91 Question Id : 54592732815 Question Type : MCQ Option Shuffling : Yes
Correct Marks : 1 Wrong Marks : 0.25

A family comprised of a couple and their 2 children. 5 years ago, the average age of the family was 23 years. 2 years ago, the average age of the wife and the children was 24 years. Find the present age of the husband.

Options :

1. ✖ 30 years
2. ✖ 32 years
3. ✔ 34 years
4. ✖ 36 years

Question Number : 91 Question Id : 54592732815 Question Type : MCQ Option Shuffling : Yes

Correct Marks : 1 Wrong Marks : 0.25

एक परिवार में दंपति और उनके 2 बच्चे शामिल हैं। 5 वर्ष पहले, उस परिवार की औसत आयु 23 वर्ष थी। 2 वर्ष पहले, पत्नी और बच्चों की औसत आयु 24 वर्ष थी। पति की वर्तमान आयु ज्ञात कीजिए।

Options :

1. ✖ 30 वर्ष
2. ✖ 32 वर्ष
3. ✔ 34 वर्ष
4. ✖ 36 वर्ष

Question Number : 92 Question Id : 54592732816 Question Type : MCQ Option Shuffling : Yes

Correct Marks : 1 Wrong Marks : 0.25

A vegetable seller bought 6 bananas for Rs. 30, another 9 bananas for Rs 90 and another 15 bananas for Rs. 120. At what price should he sell a banana to earn 25% on the average cost price?

Options :

1. ✖ Rs. 9
2. ✔ Rs. 10

3. * Rs. 12

4. * Rs. 10.5

Question Number : 92 Question Id : 54592732816 Question Type : MCQ Option Shuffling : Yes

Correct Marks : 1 Wrong Marks : 0.25

एक फल विक्रेता ने 30 रुपये में 6 केले खरीदे, 90 रुपये में और 9 केले खरीदे और 120 रुपये में और 15 केले खरीदे। औसत लागत मूल्य पर 25% कमाने के लिए उसे किस कीमत पर केले बेचना चाहिए?

Options :

1. * 9 रुपये

2. ✓ 10 रुपये

3. * 12 रुपये

4. * 10.5 रुपये

Question Number : 93 Question Id : 54592732817 Question Type : MCQ Option Shuffling : Yes

Correct Marks : 1 Wrong Marks : 0.25

While weighing a sack of rice, the weighing machine broke. In X's opinion, the weight of the sack is greater than 80 kgs but less than 95 kgs, in Y's opinion, the weight of the sack is greater than 85 kgs but less than 100 kgs and the retailer believes that the sack weighs not more than 89 kgs. If all of them are true in their opinion/beliefs, then what is the average of the possible weights of the sack?

Options :

1. ✓ 87.5 kgs

2. * 87 kgs

3. * 88 kgs

4. * 86.75 kgs

Question Number : 93 Question Id : 54592732817 Question Type : MCQ Option Shuffling : Yes

Correct Marks : 1 Wrong Marks : 0.25

चावल की बोरी का वजन करते समय तौल मशीन टूट गई। X की राय में, बोरी का वजन 80 किलोग्राम से अधिक लेकिन 95 किलोग्राम से कम है। Y की राय में, बोरी का वजन 85 किलोग्राम से अधिक है, लेकिन 100 किलोग्राम से कम है और खुदरा व्यापारी का मानना है कि बोरी का वजन 89 किलोग्राम से अधिक नहीं है। यदि वे सभी अपनी राय / मान्यताओं में सत्य हैं, तो बोरी के संभावित भार का औसत क्या है?

Options :

1. ✓ 87.5 किग्रा
2. ✗ 87 किग्रा
3. ✗ 88 किग्रा
4. ✗ 86.75 किग्रा

Question Number : 94 Question Id : 54592732818 Question Type : MCQ Option Shuffling : Yes
Correct Marks : 1 Wrong Marks : 0.25

A number was supposed to be divided by $\frac{3}{4}$ but it was multiplied by $\frac{3}{4}$ instead. What is the error percentage?

Options :

1. ✗ 33.75 percentage
2. ✗ 37.50 percentage
3. ✗ 40 percentage
4. ✓ 43.75 percentage

Question Number : 94 Question Id : 54592732818 Question Type : MCQ Option Shuffling : Yes
Correct Marks : 1 Wrong Marks : 0.25

एक संख्या को $\frac{3}{4}$ से विभाजित किया जाना था, लेकिन इसके बजाय इसे $\frac{3}{4}$ से गुणा किया गया। त्रुटि प्रतिशत क्या है?

Options :

1. ✗ 33.75 प्रतिशत

2. ✖ 37.50 प्रतिशत

3. ✖ 40 प्रतिशत

4. ✔ 43.75 प्रतिशत

Question Number : 95 Question Id : 54592732819 Question Type : MCQ Option Shuffling : Yes

Correct Marks : 1 Wrong Marks : 0.25

The price of a bike is increased by 33.33% first, 25% second and 20% at last. If the old price was Rs. 30000, then what is the new price of the bike?

Options :

1. ✖ Rs. 54000

2. ✔ Rs. 60000

3. ✖ Rs. 48000

4. ✖ Rs. 72000

Question Number : 95 Question Id : 54592732819 Question Type : MCQ Option Shuffling : Yes

Correct Marks : 1 Wrong Marks : 0.25

एक बाइक की कीमत पहले 33.33%, दूसरी बार 25% और अंत में 20% बढ़ जाती है। अगर पुरानी कीमत 30000 रुपये थी, तो बाइक की नई कीमत क्या है?

Options :

1. ✖ 54000 रुपये

2. ✔ 60000 रुपये

3. ✖ 48000 रुपये

4. ✖ 72000 रुपये

Question Number : 96 Question Id : 54592732820 Question Type : MCQ Option Shuffling : Yes

Correct Marks : 1 Wrong Marks : 0.25

A box of fruits was kept in the sun for a couple of days. The weight of the fruits reduced by 10%. If about 1.5 kgs of the fruits' weight evaporated, then what is the weight of the fruit box now?

Options :

1. ✖ 15 kgs
2. ✔ 13.5 kgs
3. ✖ 16.5 kgs
4. ✖ 12 kgs

Question Number : 96 Question Id : 54592732820 Question Type : MCQ Option Shuffling : Yes

Correct Marks : 1 Wrong Marks : 0.25

कुछ दिनों के लिए फलों का एक डिब्बा धूप में रखा गया था। फलों का वजन 10% कम हो गया। यदि फलों के वजन का लगभग 1.5 किलोग्राम वाष्पित हो जाता है, तो अब फल के डिब्बे का वजन क्या है?

Options :

1. ✖ 15 किग्रा
2. ✔ 13.5 किग्रा
3. ✖ 16.5 किग्रा
4. ✖ 12 किग्रा

Question Number : 97 Question Id : 54592732821 Question Type : MCQ Option Shuffling : Yes

Correct Marks : 1 Wrong Marks : 0.25

A bike was bought for Rs. 40000 and a repair charge of Rs. 4000 was paid for. It was sold for Rs. 52800. What is the profit percent?

Options :

1. ✖ 10 percentage
2. ✔ 20 percentage
3. ✖ 15 percentage

4. * 25 percentage

Question Number : 97 Question Id : 54592732821 Question Type : MCQ Option Shuffling : Yes

Correct Marks : 1 Wrong Marks : 0.25

एक बाइक 40000 रुपये में खरीदी गई और उसपर 4000 रुपये का मरम्मत शुल्क अदा किया गया। इसे 52800 रुपये में बेचा गया। लाभ प्रतिशत क्या है?

Options :

1. * 10 प्रतिशत
2. ✓ 20 प्रतिशत
3. * 15 प्रतिशत
4. * 25 प्रतिशत

Question Number : 98 Question Id : 54592732822 Question Type : MCQ Option Shuffling : Yes

Correct Marks : 1 Wrong Marks : 0.25

A shopkeeper earns 260% profit on cost. If the cost increases by 20% whereas the selling price remains constant, find the ratio of the new profit to selling price.

Options :

1. ✓ 2:3
2. * 13:18
3. * 13:16
4. * 4:9

Question Number : 98 Question Id : 54592732822 Question Type : MCQ Option Shuffling : Yes

Correct Marks : 1 Wrong Marks : 0.25

एक दुकानदार लागत पर 260% लाभ कमाता है। यदि लागत में 20% की वृद्धि होती है जबकि विक्रय मूल्य स्थिर रहता है, तो विक्रय मूल्य और नए लाभ का अनुपात ज्ञात करें।

Options :

1. ✓ 2:3

2. ✗ 13:18

3. ✗ 13:16

4. ✗ 4:9

Question Number : 99 Question Id : 54592732823 Question Type : MCQ Option Shuffling : Yes

Correct Marks : 1 Wrong Marks : 0.25

Two bikes were sold at Rs. 40000. One of them was sold at a profit of 100% on cost and the other one was sold at $\frac{2}{3}$ rd of the cost price. To obtain an overall gain of 15%, what is the new minimum selling price of the bike which was sold at a loss with no change in the price of the bike sold at profit?

Options :

1. ✗ Rs. 54000

2. ✗ Rs. 60000

3. ✗ Rs. 48000

4. ✓ Rs. 52000

Question Number : 99 Question Id : 54592732823 Question Type : MCQ Option Shuffling : Yes

Correct Marks : 1 Wrong Marks : 0.25

दो बाइक 40000 रुपये में बेची गईं। उनमें से एक को लागत पर 100% के लाभ पर बेचा गया था और दूसरी को लागत मूल्य के $\frac{2}{3}$ पर बेचा गया था। 15% का समग्र लाभ प्राप्त करने के लिए, बाइक का नया न्यूनतम बिक्री मूल्य क्या है जो लाभ में बेची गई बाइक की कीमत में बिना कोई बदलाव किये नुकसान में बेची गई थी?

Options :

1. ✗ 54000 रुपये

2. ✗ 60000 रुपये

3. ✖ 48000 रुपये

4. ✔ 52000 रुपये

Question Number : 100 Question Id : 54592732824 Question Type : MCQ Option Shuffling : Yes

Correct Marks : 1 Wrong Marks : 0.25

A number is 25% smaller while another number is 25% greater than the same number. What is the ratio of the 2 numbers?

Options :

1. ✔ 3:5

2. ✖ 5:3

3. ✖ 2:3

4. ✖ 3:2

Question Number : 100 Question Id : 54592732824 Question Type : MCQ Option Shuffling : Yes

Correct Marks : 1 Wrong Marks : 0.25

एक संख्या किसी संख्या से 25% छोटी है जबकि दूसरी संख्या उसी संख्या से 25% बड़ी है। दोनों संख्याओं का अनुपात क्या है?

Options :

1. ✔ 3:5

2. ✖ 5:3

3. ✖ 2:3

4. ✖ 3:2

Arithmetic Ability2

Group Number :	6
Group Id :	5459271626
Group Maximum Duration :	0
Group Minimum Duration :	0
Show Attended Group? :	No
Edit Attended Group? :	No
Break time:	0

Group Marks:	20
Is this Group for Examiner?:	No
Revisit allowed for group Instructions? :	Yes
Maximum Instruction Time:	0
Minimum Instruction Time:	0

Arithmetic Ability2

Section Id :	5459271626
Section Number :	1
Section type :	Online
Mandatory or Optional:	Mandatory
Number of Questions:	20
Number of Questions to be attempted:	20
Section Marks:	20

Sub-Section Number:	1
Sub-Section Id:	5459271950
Question Shuffling Allowed :	Yes

Question Number : 101 Question Id : 54592732825 Question Type : MCQ Option Shuffling : Yes
Correct Marks : 1 Wrong Marks : 0.25

The sum of squares of two numbers is 1629 while the numbers are in the ratio of 9:10. Find the difference between the smaller number and the cube of the numbers' difference.

Options :

1. ✓ 0
2. ✗ 1
3. ✗ 2
4. ✗ 3

Question Number : 101 Question Id : 54592732825 Question Type : MCQ Option Shuffling : Yes
Correct Marks : 1 Wrong Marks : 0.25

दो संख्याओं के वर्ग का योग 1629 है जबकि वे संख्याएँ 9:10 के अनुपात में हैं। छोटी संख्या और संख्याओं के अंतर के घन के बीच का अंतर ज्ञात कीजिए।

Options :

1. ✓ 0

2. ✖ 1

3. ✖ 2

4. ✖ 3

Question Number : 102 Question Id : 54592732826 Question Type : MCQ Option Shuffling : Yes
Correct Marks : 1 Wrong Marks : 0.25

What is the proportion equivalent to $A : B : C : D$ if $A : B = 4 : 5$, $B : C = 7 : 10$ and $C : D = 12 : 13$?

Options :

1. ✖ 126 : 210 : 300 : 325

2. ✖ 168 : 180 : 300 : 325

3. ✖ 168 : 210 : 280 : 325

4. ✔ 168 : 210 : 300 : 325

Question Number : 102 Question Id : 54592732826 Question Type : MCQ Option Shuffling : Yes
Correct Marks : 1 Wrong Marks : 0.25

$A : B : C : D$ के बराबर अनुपात है तो क्या होगा, यदि $A : B = 4 : 5$, $B : C = 7 : 10$ और $C : D = 12 : 13$?

Options :

1. ✖ 126 : 210 : 300 : 325

2. ✖ 168 : 180 : 300 : 325

3. ✖ 168 : 210 : 280 : 325

4. ✔ 168 : 210 : 300 : 325

Question Number : 103 Question Id : 54592732827 Question Type : MCQ Option Shuffling : Yes
Correct Marks : 1 Wrong Marks : 0.25

2 bank accounts have the same amount. One offers simple interest while the other offers compound interest. The difference between simple and compound interests compounded annually on the sum of money for 2 years at 6% pa is Rs. 28.80. What is the amount?

Options :

1. ✖ Rs. 6000
2. ✖ Rs. 6400
3. ✖ Rs. 7200
4. ✔ Rs. 8000

Question Number : 103 Question Id : 54592732827 Question Type : MCQ Option Shuffling : Yes

Correct Marks : 1 Wrong Marks : 0.25

2 बैंक खातों में एक समान धनराशि है। एक साधारण ब्याज देता है जबकि दूसरा चक्रवृद्धि ब्याज देता है। 6% पर 2 वर्ष के लिए उस धनराशि पर सालाना गणना की दर से साधारण और चक्रवृद्धि ब्याज के बीच का अंतर 28.80 रुपये है। वह राशि क्या है?

Options :

1. ✖ 6000 रुपये
2. ✖ 6400 रुपये
3. ✖ 7200 रुपये
4. ✔ 8000 रुपये

Question Number : 104 Question Id : 54592732828 Question Type : MCQ Option Shuffling : Yes

Correct Marks : 1 Wrong Marks : 0.25

An amount invested at simple interest increased by 75% in 5 years. What will be the compound interest of Rs. 10000 after 2 years at the same rate?

Options :

1. ✔ Rs. 3225

2. * Rs. 3375

3. * Rs. 2250

4. * Rs. 3000

Question Number : 104 Question Id : 54592732828 Question Type : MCQ Option Shuffling : Yes
Correct Marks : 1 Wrong Marks : 0.25

साधारण ब्याज पर निवेश की गई राशि में 5 वर्षों में 75% की वृद्धि हुई। उसी दर पर 2 वर्ष बाद 10000 रुपये का चक्रवृद्धि ब्याज क्या होगा?

Options :

1. ✓ 3225 रुपये

2. * 3375 रुपये

3. * 2250 रुपये

4. * 3000 रुपये

Question Number : 105 Question Id : 54592732829 Question Type : MCQ Option Shuffling : Yes
Correct Marks : 1 Wrong Marks : 0.25

The difference between compound interest compounded half-yearly and simple interest on a sum of Rs. 1000000 for 2 years is Rs. 9858.56. What is the rate of interest per annum?

Options :

1. ✓ 8 percentage

2. * 9 percentage

3. * 11 percentage

4. * 10 percentage

Question Number : 105 Question Id : 54592732829 Question Type : MCQ Option Shuffling : Yes
Correct Marks : 1 Wrong Marks : 0.25

अर्धवार्षिक रूप से गणना करने पर 2 वर्ष के लिए 1000000 रुपये की राशि पर चक्रवृद्धि ब्याज और साधारण ब्याज के बीच का अंतर 9858.56 रुपये है। प्रति वर्ष ब्याज दर क्या है?

Options :

1. ✓ 8 प्रतिशत
2. ✗ 9 प्रतिशत
3. ✗ 11 प्रतिशत
4. ✗ 10 प्रतिशत

Question Number : 106 Question Id : 54592732830 Question Type : MCQ Option Shuffling : Yes
Correct Marks : 1 Wrong Marks : 0.25

A car covers a distance of 360 kms in 4 hours. By how much should the speed of the car be increased to cover the same distance in 3 hours?

Options :

1. ✗ 15 km/h
2. ✓ 30 km/h
3. ✗ 45 km/h
4. ✗ 37.5 km/h

Question Number : 106 Question Id : 54592732830 Question Type : MCQ Option Shuffling : Yes
Correct Marks : 1 Wrong Marks : 0.25

एक कार 4 घंटे में 360 किलोमीटर की दूरी तय करती है। 3 घंटे में समान दूरी को तय करने के लिए कार की गति कितनी बढ़ाई जानी चाहिए?

Options :

1. ✗ 15 किमी / घंटा
2. ✓ 30 किमी / घंटा
3. ✗ 45 किमी / घंटा
4. ✗ 37.5 किमी / घंटा

Question Number : 107 Question Id : 54592732831 Question Type : MCQ Option Shuffling : Yes
Correct Marks : 1 Wrong Marks : 0.25

A man starts off on a journey. He travels for 8 hours in total. The first half of the journey was covered at 16 km/h and the second half at 48 km/h. What is the total distance travelled by him?

Options :

1. ✖ 96 kms
2. ✔ 192 kms
3. ✖ 144 kms
4. ✖ 132 kms

Question Number : 107 Question Id : 54592732831 Question Type : MCQ Option Shuffling : Yes

Correct Marks : 1 Wrong Marks : 0.25

एक आदमी यात्रा पर निकल जाता है। वह कुल 8 घंटे की यात्रा करता है। यात्रा का पहला आधा भाग 16 किमी / घंटा और दूसरा आधा भाग 48 किमी / घंटा की गति से तय किया गया था। उसके द्वारा तय की गई कुल दूरी कितनी है?

Options :

1. ✖ 96 कि.मी.
2. ✔ 192 कि.मी.
3. ✖ 144 कि.मी.
4. ✖ 132 कि.मी.

Question Number : 108 Question Id : 54592732832 Question Type : MCQ Option Shuffling : Yes

Correct Marks : 1 Wrong Marks : 0.25

A train travels 20% faster than a car. Both start from the same point and meet after 300 kms. On then way, train stopped for an hour at stations. What is the speed of the train?

Options :

1. ✖ 50 km/h
2. ✔ 60 km/h

3. * 45 km/h

4. * 80 km/h

Question Number : 108 Question Id : 54592732832 Question Type : MCQ Option Shuffling : Yes

Correct Marks : 1 Wrong Marks : 0.25

एक ट्रेन एक कार से 20% तेजी से यात्रा करती है। दोनों एक ही बिंदु से शुरू होती हैं और 300 किलोमीटर के बाद मिलती हैं। रास्ते में ट्रेन एक घंटे के लिए स्टेशनों पर रुकती है। ट्रेन की गति क्या है?

Options :

1. * 50 किमी / घंटा

2. ✓ 60 किमी / घंटा

3. * 45 किमी / घंटा

4. * 80 किमी / घंटा

Question Number : 109 Question Id : 54592732833 Question Type : MCQ Option Shuffling : Yes

Correct Marks : 1 Wrong Marks : 0.25

A and B can together finish a task in 16 days. Find the number of days B would take to do the task alone if A alone takes 32 days to complete the task.

Options :

1. * 18

2. ✓ 32

3. * 24

4. * 36

Question Number : 109 Question Id : 54592732833 Question Type : MCQ Option Shuffling : Yes

Correct Marks : 1 Wrong Marks : 0.25

A और B मिलकर एक कार्य को 16 दिनों में पूरा कर सकते हैं। A को अकेले वह कार्य पूरा करने में 32 दिन लगते हैं तो B को अकेले वह कार्य करने में कितने दिन लगेंगे।

Options :

1. ✖ 18

2. ✔ 32

3. ✖ 24

4. ✖ 36

Question Number : 110 Question Id : 54592732834 Question Type : MCQ Option Shuffling : Yes

Correct Marks : 1 Wrong Marks : 0.25

If A can do a work in 48 days and B is thrice as efficient as A. In how many days more will the work be completed if B joins A on the 3rd day and then they work together?

Options :

1. ✖ 10

2. ✖ 11

3. ✔ 11.5

4. ✖ 12

Question Number : 110 Question Id : 54592732834 Question Type : MCQ Option Shuffling : Yes

Correct Marks : 1 Wrong Marks : 0.25

यदि A 48 दिनों में एक काम कर सकता है और B, A से तीन गुना कुशल है। यदि B, A को तीसरे दिन शामिल होता है और फिर वे एक साथ काम करते हैं तो कितने अधिक दिनों में वह कार्य पूरा होगा?

Options :

1. ✖ 10

2. ✖ 11

3. ✔ 11.5

4. ✖ 12

Question Number : 111 Question Id : 54592732835 Question Type : MCQ Option Shuffling : Yes

Correct Marks : 1 Wrong Marks : 0.25

A, B & C can do a work in 8 days, while A & B can do the work in 20 days and B & C can do the work in 12 days while. In how many days can C do the work alone?

Options :

1. ✖ 12
2. ✖ 12.5
3. ✖ 13
4. ✔ 13.33

Question Number : 111 Question Id : 54592732835 Question Type : MCQ Option Shuffling : Yes

Correct Marks : 1 Wrong Marks : 0.25

A, B और C एक काम को 8 दिनों में कर सकते हैं, जबकि A और B 20 दिनों में वह काम कर सकते हैं और B और C उस काम को 12 दिनों में कर सकते हैं। C अकेले वह कार्य कितने दिनों में कर सकता है?

Options :

1. ✖ 12
2. ✖ 12.5
3. ✖ 13
4. ✔ 13.33

Question Number : 112 Question Id : 54592732836 Question Type : MCQ Option Shuffling : Yes

Correct Marks : 1 Wrong Marks : 0.25

The curved surface area of a cylinder is 440 cm^2 . If the radius is 7 cm, then what is the height of the cylinder?

Options :

1. ✖ 5 cm
2. ✔ 10 cm
3. ✖ 15 cm

4. ✖ 20 cm

Question Number : 112 Question Id : 54592732836 Question Type : MCQ Option Shuffling : Yes
Correct Marks : 1 Wrong Marks : 0.25

एक सिलेंडर के घुमावदार सतह का क्षेत्रफल 440 सेमी^2 है। यदि उसकी त्रिज्या 7 सेमी है, तो सिलेंडर की ऊंचाई क्या है?

Options :

1. ✖ 5 से.मी.
2. ✓ 10 से.मी.
3. ✖ 15 सेमी
4. ✖ 20 से.मी.

Question Number : 113 Question Id : 54592732837 Question Type : MCQ Option Shuffling : Yes
Correct Marks : 1 Wrong Marks : 0.25

A plot is in the shape of a trapezium. The height measures 10 cm and the area is 150 cm^2 . If one of the parallel sides is half of the other, then find the length of the larger parallel side.

Options :

1. ✖ 5 cm
2. ✖ 10 cm
3. ✖ 15 cm
4. ✓ 20 cm

Question Number : 113 Question Id : 54592732837 Question Type : MCQ Option Shuffling : Yes
Correct Marks : 1 Wrong Marks : 0.25

एक प्लॉट एक समलंब चतुर्भुज के आकार में है। ऊंचाई 10 सेमी और क्षेत्रफल 150 सेमी^2 है। यदि समानांतर पक्षों में से एक दूसरे का आधा है, तो बड़े समानांतर पक्ष की लंबाई ज्ञात करें।

Options :

1. ✖ 5 सेमी
2. ✖ 10 सेमी
3. ✖ 15 सेमी
4. ✔ 20 सेमी

Question Number : 114 Question Id : 54592732838 Question Type : MCQ Option Shuffling : Yes
Correct Marks : 1 Wrong Marks : 0.25

A cuboid whose length and breadth measure 256 cms and 1024 cms respectively is made from a cube whose diagonal is $64\sqrt{3}$ cms. Find the height of the cuboid.

Options :

1. ✔ 1 cm
2. ✖ 2 cm
3. ✖ 3 cm
4. ✖ 4 cm

Question Number : 114 Question Id : 54592732838 Question Type : MCQ Option Shuffling : Yes
Correct Marks : 1 Wrong Marks : 0.25

एक घनाभ जिसकी लंबाई और चौड़ाई क्रमशः 256 सेंटीमीटर और 1024 सेंटीमीटर है, एक घन से बना है जिसका विकर्ण $64\sqrt{3}$ सेमी है। घनाभ की ऊँचाई ज्ञात कीजिए।

Options :

1. ✔ 1 सेमी
2. ✖ 2 सेमी
3. ✖ 3 सेमी
4. ✖ 4 सेमी

Question Number : 115 Question Id : 54592732839 Question Type : MCQ Option Shuffling : Yes
Correct Marks : 1 Wrong Marks : 0.25

The pie chart shows the various kinds of expenses of a particular family for a month. The amount spent on electricity for the month is Rs. 1200. What is the total amount spent on house rent and food bills?

Expenses of a Particular Family



Options :

1. ✓ Rs. 6480
2. ✗ Rs. 3240
3. ✗ Rs. 4860
4. ✗ Rs. 9720

Question Number : 115 Question Id : 54592732839 Question Type : MCQ Option Shuffling : Yes

Correct Marks : 1 Wrong Marks : 0.25

यह पाई चार्ट एक महीने के लिए किसी विशेष परिवार के विभिन्न प्रकार के खर्चों को दर्शाता है। उस महीने के लिए बिजली पर खर्च होने वाली राशि 1200 रुपये है। घर के किराए और खाने के बिलों पर कुल कितनी राशि खर्च की गई है?

एक विशेष परिवार के खर्च



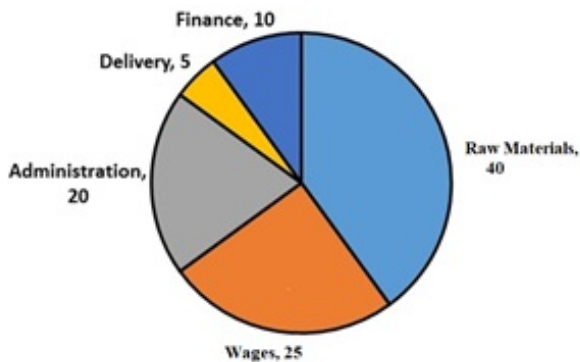
Options :

1. ✓ 6480 रुपये
2. ✗ 3240 रुपये
3. ✗ 4860 रुपये
4. ✗ 9720 रुपये

Question Number : 116 Question Id : 54592732840 Question Type : MCQ Option Shuffling : Yes
Correct Marks : 1 Wrong Marks : 0.25

The pie chart depicts the allocation of the revenue towards the expenses of a particular company. If the company's sales are Rs. 300000 and 75% of the revenue is allocated towards expenses, then what is the total amount spent on Wages and Delivery?

Distribution of the expenses of Company A

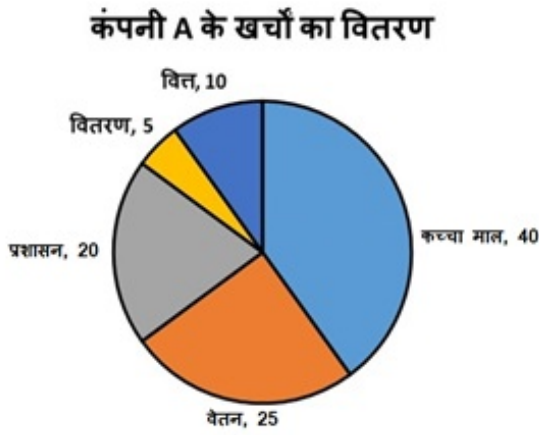


Options :

1. ✖ Rs. 112500
2. ✖ Rs. 45000
3. ✔ Rs. 67500
4. ✖ Rs. 90000

Question Number : 116 Question Id : 54592732840 Question Type : MCQ Option Shuffling : Yes
Correct Marks : 1 Wrong Marks : 0.25

इस पाई चार्ट में किसी विशेष कंपनी के खर्चों के लिए राजस्व के आवंटन को दर्शाया गया है। यदि कंपनी की बिक्री 300000 रुपये है और राजस्व का 75% खर्चों के लिए आवंटित किया गया है, तो मजदूरी और वितरण पर खर्च की गई कुल राशि क्या है?



Options :

1. ✘ 112500 रुपये
2. ✘ 45000 रुपये
3. ✔ 67500 रुपये
4. ✘ 90000 रुपये

Question Number : 117 Question Id : 54592732841 Question Type : MCQ Option Shuffling : Yes
Correct Marks : 1 Wrong Marks : 0.25

The table shows the distribution of the marks obtained by various students in a class. What is the ratio of the number of students getting >80% in arithmetic and >20% in grammar to >60% in arithmetic and >40% in grammar?

Subject	Marks out of 50				
	40 and above	30 and above	20 and above	10 and above	0 and above
Arithmetic	24	72	192	216	240
Grammar	10	48	168	192	240
Average (Aggregate)	17	60	180	204	240

Options :

1. ✖ 2:3

2. ✖ 9:11

3. ✖ 4:5

4. ✔ 9:10

Question Number : 117 Question Id : 54592732841 Question Type : MCQ Option Shuffling : Yes
Correct Marks : 1 Wrong Marks : 0.25

यह तालिका एक कक्षा में विभिन्न छात्रों द्वारा प्राप्त अंकों के वितरण को दर्शाती है। अंकगणित में >80% और व्याकरण में >20% लेने वाले छात्रों का अंकगणितीय में >60% और व्याकरण में >40% लेनेवाले छात्रों का अनुपात क्या है?

विषय	50 में से अंक				
	40 और ऊपर	30 और ऊपर	20 और ऊपर	10 और ऊपर	0 और ऊपर
अंकगणित	24	72	192	216	240
व्याकरण	10	48	168	192	240
औसत (पूर्णयोग)	17	60	180	204	240

Options :

1. ✖ 2:03

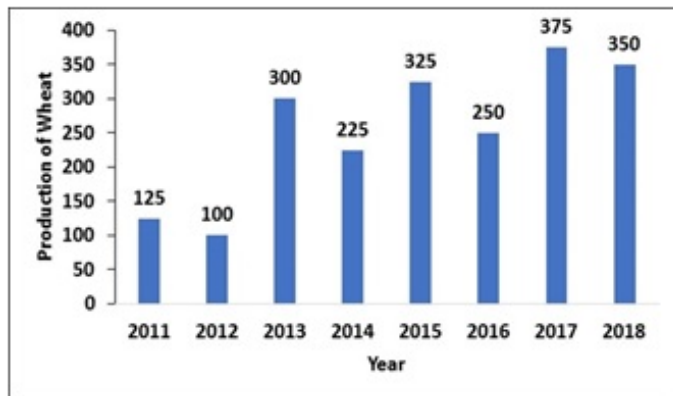
2. ✖ 9:11

3. ✖ 4:05

4. ✔ 9:10

Question Number : 118 Question Id : 54592732842 Question Type : MCQ Option Shuffling : Yes
Correct Marks : 1 Wrong Marks : 0.25

The bar graph below shows the production of wheat (in tonnes) by a big farm over the years 2011-2018. In how many of the given years was the production of wheat less than the previous year?

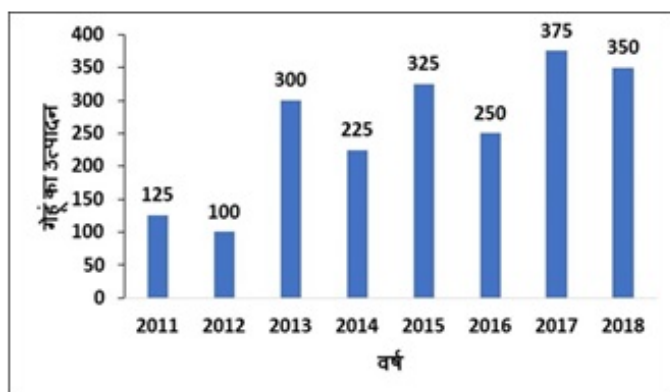


Options :

1. ✖ 2
2. ✖ 3
3. ✔ 4
4. ✖ 5

Question Number : 118 Question Id : 54592732842 Question Type : MCQ Option Shuffling : Yes
Correct Marks : 1 Wrong Marks : 0.25

नीचे दिया गया बार ग्राफ वर्ष 2011-2018 में एक बड़े खेत में गेहूं (टन में) का उत्पादन दर्शाता है। पिछले वर्ष की तुलना में दिए गए कितने वर्षों में गेहूं का उत्पादन कम था?



Options :

1. ✖ 2

2. ✖ 3

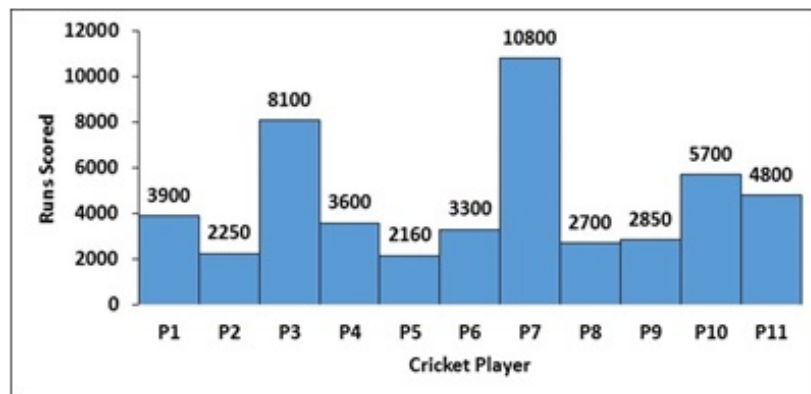
3. ✔ 4

4. ✖ 5

Question Number : 119 Question Id : 54592732843 Question Type : MCQ Option Shuffling : Yes

Correct Marks : 1 Wrong Marks : 0.25

The histogram shows the runs scored by eleven cricket players named P1, P2, P3, P4, ... P11 in their respective careers which lasted for 9 years. Which player along with P3 combined can match the tally of the highest run scorer?



Options :

1. ✖ P2

2. ✖ P4

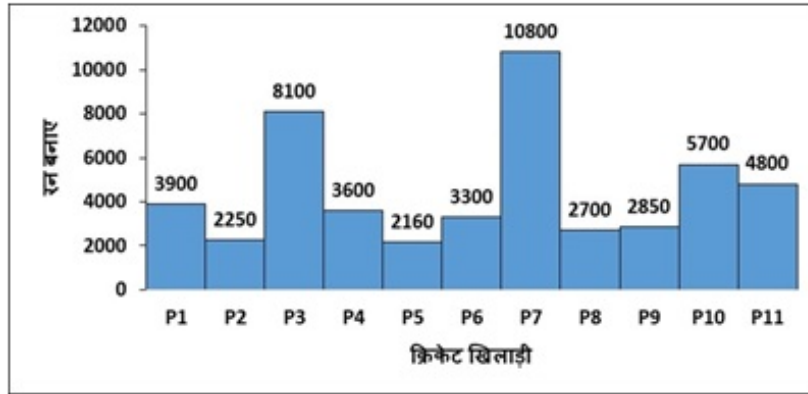
3. ✖ P6

4. ✔ P8

Question Number : 119 Question Id : 54592732843 Question Type : MCQ Option Shuffling : Yes

Correct Marks : 1 Wrong Marks : 0.25

यह हिस्टोग्राम अपने संबंधित करियर में P1, P2, P3, P4, ... P11 नामक ग्यारह क्रिकेट खिलाड़ियों द्वारा बनाए गए रनों को दिखाता है जो 9 वर्षों तक चला। P3 के साथ कौन सा खिलाड़ी संयुक्त रूप से सर्वाधिक रन बनाने वाले के साथ मेल खा सकता है?

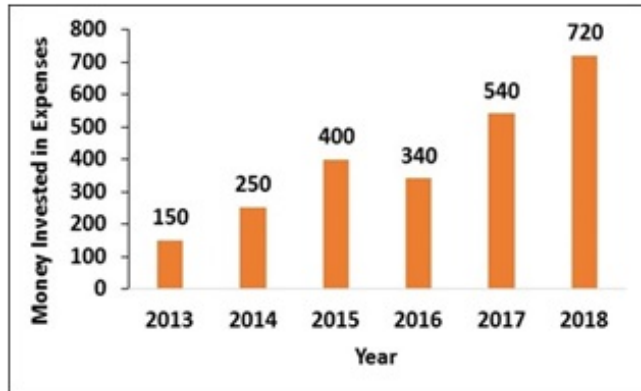


Options :

1. ✘ P2
2. ✘ P4
3. ✘ P6
4. ✔ P8

Question Number : 120 Question Id : 54592732844 Question Type : MCQ Option Shuffling : Yes
Correct Marks : 1 Wrong Marks : 0.25

The bar chart shows the money annually invested in expenses (in Rs lakhs) from 2013-2018. If the average revenue during the same period is Rs. 480 lakhs, then what is the profit percentage expected for 2019 if the profit is expected to grow by 20% over the average profit of the last 6 years?

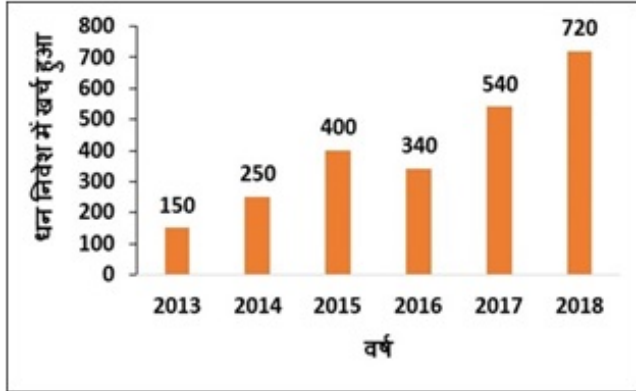


Options :

1. ✘ 20 percentage
2. ✘ 22 percentage
3. ✘ 30 percentage
4. ✔ 24 percentage

Question Number : 120 Question Id : 54592732844 Question Type : MCQ Option Shuffling : Yes
Correct Marks : 1 Wrong Marks : 0.25

यह बार चार्ट 2013-2018 से खर्चों (लाखों रुपये में) में निवेश किए गए धन को दर्शाता है। यदि इसी अवधि के दौरान औसत राजस्व 480 लाख रुपये है, तो 2019 के लिए अपेक्षित लाभ प्रतिशत क्या होगा, यदि लाभ के पिछले 6 वर्षों के औसत लाभ पर 20% बढ़ने की उम्मीद है?



Options :

1. ✖ 20 प्रतिशत
2. ✖ 22 प्रतिशत
3. ✖ 30 प्रतिशत
4. ✔ 24 प्रतिशत

General English1

Group Number :	7
Group Id :	5459271627
Group Maximum Duration :	0
Group Minimum Duration :	0
Show Attended Group? :	No
Edit Attended Group? :	No
Break time:	0
Group Marks:	20
Is this Group for Examiner?:	No
Revisit allowed for group Instructions? :	Yes
Maximum Instruction Time:	0
Minimum Instruction Time:	0

General English1

Section Id :	5459271627
Section Number :	1
Section type :	Online
Mandatory or Optional:	Mandatory
Number of Questions:	20
Number of Questions to be attempted:	20
Section Marks:	20

Sub-Section Number:	1
Sub-Section Id:	5459271951
Question Shuffling Allowed :	Yes

Question Number : 121 Question Id : 54592732845 Question Type : MCQ Option Shuffling : Yes
Correct Marks : 1 Wrong Marks : 0.25

In the following statement, one part of the sentence may have an error. Find out which part of the sentence has an error and click the button corresponding to it. If the sentence is free from error, select the "No error" option.

(A) After that Prince Harry / (B) did not saw his / (C) father for a week./ (D) No error

Options :

1. ✘ A
2. ✔ B
3. ✘ C
4. ✘ D

Question Number : 121 Question Id : 54592732845 Question Type : MCQ Option Shuffling : Yes
Correct Marks : 1 Wrong Marks : 0.25

In the following statement, one part of the sentence may have an error. Find out which part of the sentence has an error and click the button corresponding to it. If the sentence is free from error, select the "No error" option.

(A) After that Prince Harry / (B) did not saw his / (C) father for a week./ (D) No error

Options :

1. ✘ A

2. ✔ B

3. ✘ C

4. ✘ D

Question Number : 122 Question Id : 54592732846 Question Type : MCQ Option Shuffling : Yes
Correct Marks : 1 Wrong Marks : 0.25

In the following statement, one part of the sentence may have an error. Find out which part of the sentence has an error and click the button corresponding to it. If the sentence is free from error, select the "No error" option.

(A) She was quite / (B) amusing when / (C) she heard about him./ (D) No error

Options :

1. ✘ A

2. ✔ B

3. ✘ C

4. ✘ D

Question Number : 122 Question Id : 54592732846 Question Type : MCQ Option Shuffling : Yes
Correct Marks : 1 Wrong Marks : 0.25

In the following statement, one part of the sentence may have an error. Find out which part of the sentence has an error and click the button corresponding to it. If the sentence is free from error, select the "No error" option.

(A) She was quite / (B) amusing when / (C) she heard about him./ (D) No error

Options :

1. ✖ A

2. ✔ B

3. ✖ C

4. ✖ D

Question Number : 123 Question Id : 54592732847 Question Type : MCQ Option Shuffling : Yes
Correct Marks : 1 Wrong Marks : 0.25

In the following statement, one part of the sentence may have an error. Find out which part of the sentence has an error and click the button corresponding to it. If the sentence is free from error, select the "No error" option.

(A) Sanjay has / (B) been driving / (C) for 6 hours./ (D) No error

Options :

1. ✖ A

2. ✖ B

3. ✖ C

4. ✔ D

Question Number : 123 Question Id : 54592732847 Question Type : MCQ Option Shuffling : Yes
Correct Marks : 1 Wrong Marks : 0.25

In the following statement, one part of the sentence may have an error. Find out which part of the sentence has an error and click the button corresponding to it. If the sentence is free from error, select the "No error" option.

(A) Sanjay has / (B) been driving / (C) for 6 hours./ (D) No error

Options :

1. ✖ A

2. ✖ B

3. ✖ C

4. ✔ D

Question Number : 124 Question Id : 54592732848 Question Type : MCQ Option Shuffling : Yes
Correct Marks : 1 Wrong Marks : 0.25

In the following statement, one part of the sentence may have an error. Find out which part of the sentence has an error and click the button corresponding to it. If the sentence is free from error, select the "No error" option.

(A) Seema has been / (B) worked on this projec / (C) since May./ (D) No error

Options :

1. ✖ A

2. ✔ B

3. ✖ C

4. ✖ D

Question Number : 124 Question Id : 54592732848 Question Type : MCQ Option Shuffling : Yes
Correct Marks : 1 Wrong Marks : 0.25

In the following statement, one part of the sentence may have an error. Find out which part of the sentence has an error and click the button corresponding to it. If the sentence is free from error, select the "No error" option.

(A) Seema has been / (B) worked on this projec / (C) since May./ (D) No error

Options :

1. ✖ A

2. ✔ B

3. ✖ C

4. ✖ D

Question Number : 125 Question Id : 54592732849 Question Type : MCQ Option Shuffling : Yes
Correct Marks : 1 Wrong Marks : 0.25

In the following statement, one part of the sentence may have an error. Find out which part of the sentence has an error and click the button corresponding to it. If the sentence is free from error, select the "No error" option.

(A) Besides his children, / (B) his nephews and nieces / (C) were also present./ (D) No error

Options :

1. ✖ A

2. ✖ B

3. ✖ C

4. ✔ D

Question Number : 125 Question Id : 54592732849 Question Type : MCQ Option Shuffling : Yes
Correct Marks : 1 Wrong Marks : 0.25

In the following statement, one part of the sentence may have an error. Find out which part of the sentence has an error and click the button corresponding to it. If the sentence is free from error, select the "No error" option.

(A) Besides his children, / (B) his nephews and nieces /
(C) were also present./ (D) No error

Options :

1. ✖ A

2. ✖ B

3. ✖ C

4. ✔ D

Question Number : 126 Question Id : 54592732850 Question Type : MCQ Option Shuffling : Yes
Correct Marks : 1 Wrong Marks : 0.25

Replace the words in the bracket from the set of options given.
(Since) last year, I haven't seen Mira even once.

Options :

1. ✖ From

2. ✖ For

3. ✖ With

4. ✔ No correction

Question Number : 126 Question Id : 54592732850 Question Type : MCQ Option Shuffling : Yes
Correct Marks : 1 Wrong Marks : 0.25

Replace the words in the bracket from the set of options given.

(Since) last year, I haven't seen Mira even once.

Options :

1. ✖ From
2. ✖ For
3. ✖ With
4. ✔ No correction

Question Number : 127 Question Id : 54592732851 Question Type : MCQ Option Shuffling : Yes
Correct Marks : 1 Wrong Marks : 0.25

Replace the words in the bracket from the set of options given.
Hardly had Garima reached the station (than) the train came.

Options :

1. ✖ while
2. ✔ when
3. ✖ then
4. ✖ No correction

Question Number : 127 Question Id : 54592732851 Question Type : MCQ Option Shuffling : Yes
Correct Marks : 1 Wrong Marks : 0.25

Replace the words in the bracket from the set of options given.

Hardly had Garima reached the station (than) the train came.

Options :

1. ✖ while
2. ✔ when
3. ✖ then

4. ✖ No correction

Question Number : 128 Question Id : 54592732852 Question Type : MCQ Option Shuffling : Yes
Correct Marks : 1 Wrong Marks : 0.25

Replace the words in the bracket from the set of options given.
Isha goes (at) school by bus.

Options :

1. ✔ to

2. ✖ in

3. ✖ on

4. ✖ No correction

Question Number : 128 Question Id : 54592732852 Question Type : MCQ Option Shuffling : Yes
Correct Marks : 1 Wrong Marks : 0.25

Replace the words in the bracket from the set of options given.

Isha goes (at) school by bus.

Options :

1. ✔ to

2. ✖ in

3. ✖ on

4. ✖ No correction

Question Number : 129 Question Id : 54592732853 Question Type : MCQ Option Shuffling : Yes
Correct Marks : 1 Wrong Marks : 0.25

Replace the words in the bracket from the set of options given.
Do you usually (spoke to him) like that?

Options :

1. ✖ speak on him

2. ✔ speak to him

3. ✖ spoke with him

4. ✖ No correction

Question Number : 129 Question Id : 54592732853 Question Type : MCQ Option Shuffling : Yes

Correct Marks : 1 Wrong Marks : 0.25

Replace the words in the bracket from the set of options given.

Do you usually (spoke to him) like that?

Options :

1. ✖ speak on him

2. ✔ speak to him

3. ✖ spoke with him

4. ✖ No correction

Question Number : 130 Question Id : 54592732854 Question Type : MCQ Option Shuffling : Yes

Correct Marks : 1 Wrong Marks : 0.25

Replace the words in the bracket from the set of options given.

The child jumped with delight (on seeing) his mother.

Options :

1. ✖ to see

2. ✖ on saw

3. ✖ for seeing

4. ✔ No correction

Question Number : 130 Question Id : 54592732854 Question Type : MCQ Option Shuffling : Yes

Correct Marks : 1 Wrong Marks : 0.25

Replace the words in the bracket from the set of options given.

The child jumped with delight (on seeing) his mother.

Options :

1. ✖ to see
2. ✖ on saw
3. ✖ for seeing
4. ✔ No correction

Question Number : 131 Question Id : 54592732855 Question Type : MCQ Option Shuffling : Yes
Correct Marks : 1 Wrong Marks : 0.25

Fill in the blanks with appropriate word.

Agriculture in India kept pace _____ industrial progress.

Options :

1. ✔ with
2. ✖ on
3. ✖ of
4. ✖ for

Question Number : 131 Question Id : 54592732855 Question Type : MCQ Option Shuffling : Yes
Correct Marks : 1 Wrong Marks : 0.25

Fill in the blanks with appropriate word.

Agriculture in India kept pace _____ industrial progress.

Options :

1. ✔ with
2. ✖ on
3. ✖ of
4. ✖ for

Question Number : 132 Question Id : 54592732856 Question Type : MCQ Option Shuffling : Yes
Correct Marks : 1 Wrong Marks : 0.25

Fill in the blanks with appropriate word.

Jay hasn't seen me ____ ages.

Options :

1. ✖ with

2. ✔ for

3. ✖ at

4. ✖ to

Question Number : 132 Question Id : 54592732856 Question Type : MCQ Option Shuffling : Yes
Correct Marks : 1 Wrong Marks : 0.25

Fill in the blanks with appropriate word.

Jay hasn't seen me _____ ages.

Options :

1. ✖ with

2. ✔ for

3. ✖ at

4. ✖ to

Question Number : 133 Question Id : 54592732857 Question Type : MCQ Option Shuffling : Yes
Correct Marks : 1 Wrong Marks : 0.25

Fill in the blanks with appropriate word.

Sakshi has a tendency to pick up a quarrel _____ petty things.

Options :

1. ✖ with

2. ✔ over

3. ✖ for

4. ✖ in

Question Number : 133 Question Id : 54592732857 Question Type : MCQ Option Shuffling : Yes
Correct Marks : 1 Wrong Marks : 0.25

Fill in the blanks with appropriate word.

Sakshi has a tendency to pick up a quarrel _____
petty things.

Options :

1. ✖ with
2. ✔ over
3. ✖ for
4. ✖ in

Question Number : 134 Question Id : 54592732858 Question Type : MCQ Option Shuffling : Yes
Correct Marks : 1 Wrong Marks : 0.25

Fill in the blanks with appropriate word.

The train to Kolkata _____ from Sonarpur Station at 8.00
a.m.

Options :

1. ✔ starts
2. ✖ will started
3. ✖ was started
4. ✖ had been starting

Question Number : 134 Question Id : 54592732858 Question Type : MCQ Option Shuffling : Yes
Correct Marks : 1 Wrong Marks : 0.25

Fill in the blanks with appropriate word.

The train to Kolkata _____ from Sonarpur Station at
8.00 a.m.

Options :

1. ✔ starts
2. ✖ will started

3. ✖ was started

4. ✖ had been starting

Question Number : 135 Question Id : 54592732859 Question Type : MCQ Option Shuffling : Yes

Correct Marks : 1 Wrong Marks : 0.25

Fill in the blanks with appropriate word.

Seema lives _____ 56, Shalimar Road.

Options :

1. ✖ in

2. ✔ at

3. ✖ on

4. ✖ for

Question Number : 135 Question Id : 54592732859 Question Type : MCQ Option Shuffling : Yes

Correct Marks : 1 Wrong Marks : 0.25

Fill in the blanks with appropriate word.

Seema lives _____ 56, Shalimar Road.

Options :

1. ✖ in

2. ✔ at

3. ✖ on

4. ✖ for

Question Number : 136 Question Id : 54592732860 Question Type : MCQ Option Shuffling : Yes

Correct Marks : 1 Wrong Marks : 0.25

Fill in the blanks with appropriate word.

Kolkata is infamous _____ its jute mills.

Options :

1. ✖ with

2. ✔ for

3. ✖ at

4. ✖ in

Question Number : 136 Question Id : 54592732860 Question Type : MCQ Option Shuffling : Yes
Correct Marks : 1 Wrong Marks : 0.25

Fill in the blanks with appropriate word.

Kolkata is infamous _____ its jute mills.

Options :

1. ✖ with

2. ✔ for

3. ✖ at

4. ✖ in

Question Number : 137 Question Id : 54592732861 Question Type : MCQ Option Shuffling : Yes
Correct Marks : 1 Wrong Marks : 0.25

Fill in the blanks with appropriate word.

She was _____ during the interview.

Options :

1. ✖ surfeit

2. ✖ slacked

3. ✔ staid

4. ✖ suffered

Question Number : 137 Question Id : 54592732861 Question Type : MCQ Option Shuffling : Yes
Correct Marks : 1 Wrong Marks : 0.25

Fill in the blanks with appropriate word.

She was _____ during the interview.

Options :

1. ✖ surfeit

2. ✖ slacked

3. ✓ staid

4. ✗ suffered

Question Number : 138 Question Id : 54592732862 Question Type : MCQ Option Shuffling : Yes

Correct Marks : 1 Wrong Marks : 0.25

Fill in the blanks with appropriate word.

_____ the 1870s until his death, Mahatama Gandhi lived in India.

Options :

1. ✓ From

2. ✗ Since

3. ✗ For

4. ✗ Within

Question Number : 138 Question Id : 54592732862 Question Type : MCQ Option Shuffling : Yes

Correct Marks : 1 Wrong Marks : 0.25

Fill in the blanks with appropriate word.

_____ the 1870s until his death, Mahatama Gandhi lived in India.

Options :

1. ✓ From

2. ✗ Since

3. ✗ For

4. ✗ Within

Question Number : 139 Question Id : 54592732863 Question Type : MCQ Option Shuffling : Yes

Correct Marks : 1 Wrong Marks : 0.25

The questions below consist of a set of labelled parts of a sentence. Out of four options given, select the most logical order of the parts which form a coherent sentence.

The typical institution of today

P : problem for which

Q : are totally inadequate

R : has an organisational

S : traditional concepts and theories

Options :

1. ✘ SQRP

2. ✘ RQSP

3. ✘ PRQS

4. ✔ RPSQ

Question Number : 139 Question Id : 54592732863 Question Type : MCQ Option Shuffling : Yes

Correct Marks : 1 Wrong Marks : 0.25

The questions below consist of a set of labelled parts of a sentence. Out of four options given, select the most logical order of the parts which form a coherent sentence.

The typical institution of today

P : problem for which

Q : are totally inadequate

R : has an organisational

S : traditional concepts and theories

Options :

1. ✘ SQRP

2. ✖ RQSP

3. ✖ PRQS

4. ✔ RPSQ

Question Number : 140 Question Id : 54592732864 Question Type : MCQ Option Shuffling : Yes
Correct Marks : 1 Wrong Marks : 0.25

The questions below consist of a set of labelled parts of a sentence. Out of four options given, select the most logical order of the parts which form a coherent sentence.

Since the end of World-War II

P : medical people in uniform

Q : the American military services

R : their inability to keep trained

S : have been plagued by

Options :

1. ✖ RPSQ

2. ✖ RQSP

3. ✔ QSRP

4. ✖ PSQR

Question Number : 140 Question Id : 54592732864 Question Type : MCQ Option Shuffling : Yes
Correct Marks : 1 Wrong Marks : 0.25

The questions below consist of a set of labelled parts of a sentence. Out of four options given, select the most logical order of the parts which form a coherent sentence.

Since the end of World-War II

P : medical people in uniform

Q : the American military services

R : their inability to keep trained

S : have been plagued by

Options :

1. ✖ RPSQ

2. ✖ RQSP

3. ✔ QSRP

4. ✖ PSQR

General English2

Group Number :	8
Group Id :	5459271628
Group Maximum Duration :	0
Group Minimum Duration :	0
Show Attended Group? :	No
Edit Attended Group? :	No
Break time:	0
Group Marks:	20
Is this Group for Examiner?:	No
Revisit allowed for group Instructions? :	Yes
Maximum Instruction Time:	0
Minimum Instruction Time:	0

General English2

Section Id :

5459271628

Section Number :	1
Section type :	Online
Mandatory or Optional:	Mandatory
Number of Questions:	16
Number of Questions to be attempted:	16
Section Marks:	20

Sub-Section Number:	1
Sub-Section Id:	5459271952
Question Shuffling Allowed :	Yes

Question Number : 141 Question Id : 54592732865 Question Type : MCQ Option Shuffling : Yes
Correct Marks : 1 Wrong Marks : 0.25

The question below consist of a set of labelled sentences. Out of four options given, select the most logical order of the sentences which form a paragraph.

Meetings are by definition a concession to deficient organisations.

P : One cannot do both at the same time.

Q : For one either meets or works.

R : In an ideally designed structure, there would be no meetings.

S : Everbody would know what he needs to know to do his job. Everybody would have the resources available to him to do his job.

Options :

1. ✖ RQSP
2. ✖ QSRP
3. ✖ PSRQ
4. ✔ QPRS

Question Number : 141 Question Id : 54592732865 Question Type : MCQ Option Shuffling : Yes
Correct Marks : 1 Wrong Marks : 0.25

The question below consist of a set of labelled sentences. Out of four options given, select the most logical order of the sentences which form a paragraph.

Meetings are by definition a concession to deficient organisations.

P : One cannot do both at the same time.

Q : For one either meets or works.

R : In an ideally designed structure, there would be no meetings.

S : Everbody would know what he needs to know to do his job.

Everybody would have the resources available to him to do his job.

Options :

1. ✖ RQSP

2. ✖ QSRP

3. ✖ PSRQ

4. ✔ QPRS

Question Number : 142 Question Id : 54592732866 Question Type : MCQ Option Shuffling : Yes

Correct Marks : 1 Wrong Marks : 0.25

Out of the four alternatives, choose the word which best expresses the MEANING of the given word.

Acrimony

Options :

1. ✖ Moderate
2. ✔ Bitterness
3. ✖ Forgive
4. ✖ Rival

Question Number : 142 Question Id : 54592732866 Question Type : MCQ Option Shuffling : Yes
Correct Marks : 1 Wrong Marks : 0.25

Out of the four alternatives, choose the word which best expresses the MEANING of the given word.

Acrimony

Options :

1. ✖ Moderate
2. ✔ Bitterness
3. ✖ Forgive
4. ✖ Rival

Question Number : 143 Question Id : 54592732867 Question Type : MCQ Option Shuffling : Yes
Correct Marks : 1 Wrong Marks : 0.25

Out of the four alternatives, choose the word which best expresses the MEANING of the given word.

Hapless

Options :

1. ✖ Lucky
2. ✔ Unfortunate
3. ✖ Prevent
4. ✖ Danger

Question Number : 143 Question Id : 54592732867 Question Type : MCQ Option Shuffling : Yes

Correct Marks : 1 Wrong Marks : 0.25

Out of the four alternatives, choose the word which best expresses the MEANING of the given word.

Hapless

Options :

1. ✖ Lucky
2. ✔ Unfortunate
3. ✖ Prevent
4. ✖ Danger

Question Number : 144 Question Id : 54592732868 Question Type : MCQ Option Shuffling : Yes

Correct Marks : 1 Wrong Marks : 0.25

Out of the four alternatives, choose the word which best expresses the MEANING of the given word.

Knave

Options :

1. ✖ Defend
2. ✖ Foolish
3. ✖ Paragon
4. ✔ Dishonest

Question Number : 144 Question Id : 54592732868 Question Type : MCQ Option Shuffling : Yes

Correct Marks : 1 Wrong Marks : 0.25

Out of the four alternatives, choose the word which best expresses the MEANING of the given word.

Knave

Options :

1. ✖ Defend
2. ✖ Foolish
3. ✖ Paragon
4. ✔ Dishonest

Question Number : 145 Question Id : 54592732869 Question Type : MCQ Option Shuffling : Yes
Correct Marks : 1 Wrong Marks : 0.25

Out of the four alternatives, choose the word which is OPPOSITE in meaning to the given word.

Peevish

Options :

1. ✖ Irritable
2. ✖ Sullen
3. ✖ Hostile
4. ✔ Affable

Question Number : 145 Question Id : 54592732869 Question Type : MCQ Option Shuffling : Yes
Correct Marks : 1 Wrong Marks : 0.25

Out of the four alternatives, choose the word which is OPPOSITE in meaning to the given word.

Peevish

Options :

1. ✖ Irritable
2. ✖ Sullen
3. ✖ Hostile

4. ✓ Affable

Question Number : 146 Question Id : 54592732870 Question Type : MCQ Option Shuffling : Yes
Correct Marks : 1 Wrong Marks : 0.25

Out of the four alternatives, choose the word which is OPPOSITE in meaning to the given word.

Vagrant

Options :

1. ✗ Sieze
2. ✗ Genuine
3. ✓ Steady
4. ✗ Wanderer

Question Number : 146 Question Id : 54592732870 Question Type : MCQ Option Shuffling : Yes
Correct Marks : 1 Wrong Marks : 0.25

Out of the four alternatives, choose the word which is OPPOSITE in meaning to the given word.

Vagrant

Options :

1. ✗ Sieze
2. ✗ Genuine
3. ✓ Steady
4. ✗ Wanderer

Question Number : 147 Question Id : 54592732871 Question Type : MCQ Option Shuffling : Yes
Correct Marks : 1 Wrong Marks : 0.25

Four words are given, out of which only one word is spelt correctly. Choose the correctly spelt word.

Options :

1. ✓ Ephemeral

2. ✗ Iphemeral

3. ✗ Ephemiral

4. ✗ Iphemiral

Question Number : 147 Question Id : 54592732871 Question Type : MCQ Option Shuffling : Yes
Correct Marks : 1 Wrong Marks : 0.25

Four words are given, out of which only one word is spelt correctly. Choose the correctly spelt word.

Options :

1. ✓ Ephemeral

2. ✗ Iphemeral

3. ✗ Ephemiral

4. ✗ Iphemiral

Question Number : 148 Question Id : 54592732872 Question Type : MCQ Option Shuffling : Yes
Correct Marks : 1 Wrong Marks : 0.25

Four words are given, out of which only one word is spelt correctly. Choose the correctly spelt word.

Options :

1. ✗ Phlematic

2. ✓ Phlegmatic

3. ✗ Phlagmatic

4. ✗ Phlagmetic

Question Number : 148 Question Id : 54592732872 Question Type : MCQ Option Shuffling : Yes
Correct Marks : 1 Wrong Marks : 0.25

Four words are given, out of which only one word is spelt correctly. Choose the correctly spelt word.

Options :

1. ✖ Phlematic
2. ✔ Phlegmatic
3. ✖ Phlagmatic
4. ✖ Phlagmetic

Question Number : 149 Question Id : 54592732873 Question Type : MCQ Option Shuffling : Yes
Correct Marks : 1 Wrong Marks : 0.25

Four words are given, out of which only one word is spelt correctly. Choose the correctly spelt word.

Options :

1. ✖ Perdilection
2. ✖ Predilaction
3. ✔ Predilection
4. ✖ Perdilaction

Question Number : 149 Question Id : 54592732873 Question Type : MCQ Option Shuffling : Yes
Correct Marks : 1 Wrong Marks : 0.25

Four words are given, out of which only one word is spelt correctly. Choose the correctly spelt word.

Options :

1. ✖ Perdilection
2. ✖ Predilaction
3. ✔ Predilection
4. ✖ Perdilaction

Question Number : 150 Question Id : 54592732874 Question Type : MCQ Option Shuffling : Yes
Correct Marks : 1 Wrong Marks : 0.25

What does the following idiom mean?

Hit the sack

Options :

1. ✓ Go to sleep
2. ✗ Don't give up
3. ✗ Slow down
4. ✗ Good luck

Question Number : 150 Question Id : 54592732874 Question Type : MCQ Option Shuffling : Yes
Correct Marks : 1 Wrong Marks : 0.25

What does the following idiom mean?

Hit the sack

Options :

1. ✓ Go to sleep
2. ✗ Don't give up
3. ✗ Slow down
4. ✗ Good luck

Question Number : 151 Question Id : 54592732875 Question Type : MCQ Option Shuffling : Yes
Correct Marks : 1 Wrong Marks : 0.25

What does the following idiom mean?

On the ball

Options :

1. ✗ To trust someone blindly
2. ✗ To get out of control
3. ✓ To be quick to understand and react to things.
4. ✗ To calm down

Question Number : 151 Question Id : 54592732875 Question Type : MCQ Option Shuffling : Yes
Correct Marks : 1 Wrong Marks : 0.25

What does the following idiom mean?

On the ball

Options :

1. ✖ To trust someone blindly
2. ✖ To get out of control
3. ✔ To be quick to understand and react to things.
4. ✖ To calm down

Question Number : 152 Question Id : 54592732876 Question Type : MCQ Option Shuffling : Yes
Correct Marks : 1 Wrong Marks : 0.25

What does the following idiom mean?

Take a rain check

Options :

1. ✖ To spoil something
2. ✔ To postpone a plan
3. ✖ To save money for later
4. ✖ To carry an umbrella

Question Number : 152 Question Id : 54592732876 Question Type : MCQ Option Shuffling : Yes
Correct Marks : 1 Wrong Marks : 0.25

What does the following idiom mean?

Take a rain check

Options :

1. ✖ To spoil something
2. ✔ To postpone a plan

3. ✖ To save money for later

4. ✖ To carry an umbrella

Question Number : 153 Question Id : 54592732877 Question Type : MCQ Option Shuffling : Yes

Correct Marks : 1 Wrong Marks : 0.25

In the following question, out of four alternatives, select the alternative which is the best substitute of the words / sentences.

Study of birds

Options :

1. ✔ Ornithology

2. ✖ Anthropology

3. ✖ Psephology

4. ✖ Graphology

Question Number : 153 Question Id : 54592732877 Question Type : MCQ Option Shuffling : Yes

Correct Marks : 1 Wrong Marks : 0.25

In the following question, out of four alternatives, select the alternative which is the best substitute of the words / sentences.

Study of birds

Options :

1. ✔ Ornithology

2. ✖ Anthropology

3. ✖ Psephology

4. ✖ Graphology

Question Number : 154 Question Id : 54592732878 Question Type : MCQ Option Shuffling : Yes
Correct Marks : 1 Wrong Marks : 0.25

In the following question, out of four alternatives, select the alternative which is the best substitute of the words / sentences.

Study of languages

Options :

1. ✖ Ornithology
2. ✖ Theology
3. ✔ Philology
4. ✖ Psephology

Question Number : 154 Question Id : 54592732878 Question Type : MCQ Option Shuffling : Yes
Correct Marks : 1 Wrong Marks : 0.25

In the following question, out of four alternatives, select the alternative which is the best substitute of the words / sentences.

Study of languages

Options :

1. ✖ Ornithology
2. ✖ Theology
3. ✔ Philology
4. ✖ Psephology

Question Number : 155 Question Id : 54592732879 Question Type : MCQ Option Shuffling : Yes
Correct Marks : 1 Wrong Marks : 0.25

In the following question, out of four alternatives, select the alternative which is the best substitute of the words / sentences.

The killing of one's brother

Options :

1. ✖ Homicide
2. ✔ Fratricide
3. ✖ Sororicide
4. ✖ Regicide

Question Number : 155 Question Id : 54592732879 Question Type : MCQ Option Shuffling : Yes
Correct Marks : 1 Wrong Marks : 0.25

In the following question, out of four alternatives, select the alternative which is the best substitute of the words / sentences.

The killing of one's brother

Options :

1. ✖ Homicide
2. ✔ Fratricide
3. ✖ Sororicide
4. ✖ Regicide

Sub-Section Number:	2
Sub-Section Id:	5459271953
Question Shuffling Allowed :	Yes

Question Id : 54592732880 Question Type : COMPREHENSION Sub Question Shuffling Allowed : Yes Group Comprehension Questions : No
Question Numbers : (156 to 160)

Question Label : Comprehension

Read the passage below and answer the questions that follow.

As we came down to breakfast that morning, with very shiny faces and spandy clean aprons, we found father alone in the dining-room.

"Happy New Year, papa! Where is mother?" we cried.

"A little boy came begging and said they were starving at home, so your mother went to see and--ah, here she is."

As papa spoke, in came mamma, looking very cold, rather sad, and very much excited.

"Children, don't begin till you hear what I have to say," she cried; and we sat staring at her, with the breakfast untouched before us.

"Not far away from here, lies a poor woman with a little new-born baby. Six children are huddled into one bed to keep from freezing, for they have no fire. There is nothing to eat over there; and the oldest boy came here to tell me they were starving this bitter cold day. My little girls, will you give them your breakfast, as a New Year's gift?"

Sub questions

Question Number : 156 Question Id : 54592732881 Question Type : MCQ Option Shuffling : Yes

Correct Marks : 1 Wrong Marks : 0.25

Where did the children find their father when they came down?

Options :

1. * Kitchen
2. * Bedroom
3. * Library

4. ✓ Dining-room

Question Number : 157 Question Id : 54592732882 Question Type : MCQ Option Shuffling : Yes
Correct Marks : 1 Wrong Marks : 0.25

Who came begging for the food?

Options :

1. ✘ An old man
2. ✘ A little girl
3. ✓ A little boy
4. ✘ Few children

Question Number : 158 Question Id : 54592732883 Question Type : MCQ Option Shuffling : Yes
Correct Marks : 1 Wrong Marks : 0.25

Why was the mother sad rather than being excited?

Options :

1. ✘ She was sad as she had no money left with her.
2. ✘ She was sad because her children didn't like the breakfast.
3. ✓ She was sad for the poor hungry family.
4. ✘ She was sad because she couldn't buy clothes for New Year.

Question Number : 159 Question Id : 54592732884 Question Type : MCQ Option Shuffling : Yes
Correct Marks : 1 Wrong Marks : 0.25

What did the mother want her children to do?

Options :

1. ✘ To go out and celebrate New Year
2. ✓ To sacrifice their breakfast for the poor family
3. ✘ To play with the little new-born baby
4. ✘ To help her in cooking

Question Number : 160 Question Id : 54592732885 Question Type : MCQ Option Shuffling : Yes
Correct Marks : 1 Wrong Marks : 0.25

What is the meaning of the word 'huddle' as used in the passage?

Options :

1. ✓ Cluster

2. ✗ Barrier

3. ✗ Sleep

4. ✗ Queue

Question Id : 54592732880 Question Type : COMPREHENSION Sub Question Shuffling Allowed : Yes Group Comprehension Questions : No

Question Numbers : (156 to 160)

Question Label : Comprehension

Read the passage below and answer the questions that follow.

As we came down to breakfast that morning, with very shiny faces and spandy clean aprons, we found father alone in the dining-room.

"Happy New Year, papa! Where is mother?" we cried.

"A little boy came begging and said they were starving at home, so your mother went to see and--ah, here she is."

As papa spoke, in came mamma, looking very cold, rather sad, and very much excited.

"Children, don't begin till you hear what I have to say," she cried; and we sat staring at her, with the breakfast untouched before us.

"Not far away from here, lies a poor woman with a little new-born baby. Six children are huddled into one bed to keep from freezing, for they have no fire. There is nothing to eat over there; and the oldest boy came here to tell me they were starving this bitter cold day. My little girls, will you give them your breakfast, as a New Year's gift?"

Sub questions

Question Number : 156 Question Id : 54592732881 Question Type : MCQ Option Shuffling : Yes
Correct Marks : 1 Wrong Marks : 0.25

Where did the children find their father when they came down?

Options :

1. ✖ Kitchen
2. ✖ Bedroom
3. ✖ Library
4. ✔ Dining-room

Question Number : 157 Question Id : 54592732882 Question Type : MCQ Option Shuffling : Yes
Correct Marks : 1 Wrong Marks : 0.25

Who came begging for the food?

Options :

1. ✖ An old man
2. ✖ A little girl
3. ✔ A little boy
4. ✖ Few children

Question Number : 158 Question Id : 54592732883 Question Type : MCQ Option Shuffling : Yes
Correct Marks : 1 Wrong Marks : 0.25

Why was the mother sad rather than being excited?

Options :

1. ✖ She was sad as she had no money left with her.
2. ✖ She was sad because her children didn't like the breakfast.
3. ✔ She was sad for the poor hungry family.
4. ✖ She was sad because she couldn't buy clothes for New Year.

Question Number : 159 Question Id : 54592732884 Question Type : MCQ Option Shuffling : Yes
Correct Marks : 1 Wrong Marks : 0.25

What did the mother want her children to do?

Options :

1. ✖ To go out and celebrate New Year
2. ✔ To sacrifice their breakfast for the poor family
3. ✖ To play with the little new-born baby
4. ✖ To help her in cooking

Question Number : 160 Question Id : 54592732885 Question Type : MCQ Option Shuffling : Yes
Correct Marks : 1 Wrong Marks : 0.25

What is the meaning of the word 'huddle' as used in the passage?

Options :

1. ✔ Cluster
2. ✖ Barrier
3. ✖ Sleep
4. ✖ Queue

General Hindi1

Group Number :	9
Group Id :	5459271629
Group Maximum Duration :	0
Group Minimum Duration :	0
Show Attended Group? :	No
Edit Attended Group? :	No
Break time:	0
Group Marks:	20
Is this Group for Examiner?:	No
Revisit allowed for group Instructions? :	Yes
Maximum Instruction Time:	0
Minimum Instruction Time:	0

General Hindi1

Section Id :	5459271629
Section Number :	1
Section type :	Online
Mandatory or Optional:	Mandatory

Number of Questions:	20
Number of Questions to be attempted:	20
Section Marks:	20

Sub-Section Number:	1
Sub-Section Id:	5459271954
Question Shuffling Allowed :	Yes

Question Number : 161 Question Id : 54592732886 Question Type : MCQ Option Shuffling : Yes
Correct Marks : 1 Wrong Marks : 0.25

निम्नलिखित प्रश्न में, चार विकल्पों में से, उस विकल्प का चयन करें जो दिए गए सही संधि विच्छेद की संधि का सही विकल्प हो।

विद्या + अध्ययन

Options :

1. ✓ विद्याध्ययन
2. * विद्याध्यन
3. * वीद्याध्याँ
4. * विद्याअध्ययन

Question Number : 161 Question Id : 54592732886 Question Type : MCQ Option Shuffling : Yes
Correct Marks : 1 Wrong Marks : 0.25

निम्नलिखित प्रश्न में, चार विकल्पों में से, उस विकल्प का चयन करें जो दिए गए सही संधि विच्छेद की संधि का सही विकल्प हो।

विद्या + अध्ययन

Options :

1. ✓ विद्याध्ययन
2. * विद्याध्यन
3. * वीद्याध्याँ
4. * विद्याअध्ययन

Question Number : 162 Question Id : 54592732887 Question Type : MCQ Option Shuffling : Yes
Correct Marks : 1 Wrong Marks : 0.25

निम्नलिखित प्रश्न में, चार विकल्पों में से, उस विकल्प का चयन करें जो उपसर्ग से बने शब्द का सही विकल्प हो।

Options :

1. ✓ अनिच्छा
2. ✘ नारीत्व
3. ✘ नैतिक
4. ✘ अस्तित्व

Question Number : 162 Question Id : 54592732887 Question Type : MCQ Option Shuffling : Yes

Correct Marks : 1 Wrong Marks : 0.25

निम्नलिखित प्रश्न में, चार विकल्पों में से, उस विकल्प का चयन करें जो उपसर्ग से बने शब्द का सही विकल्प हो।

Options :

1. ✓ अनिच्छा
2. ✘ नारीत्व
3. ✘ नैतिक
4. ✘ अस्तित्व

Question Number : 163 Question Id : 54592732888 Question Type : MCQ Option Shuffling : Yes

Correct Marks : 1 Wrong Marks : 0.25

निम्नलिखित प्रश्न में, चार विकल्पों में से, उस विकल्प का चयन करें जो दिए गए शब्द का सही तत्सम रूप वाला विकल्प हो।

नंदोई

Options :

1. ✘ नवति
2. ✘ नक्षत्र
3. ✓ ननंदूपति
4. ✘ नापित

Question Number : 163 Question Id : 54592732888 Question Type : MCQ Option Shuffling : Yes

Correct Marks : 1 Wrong Marks : 0.25

निम्नलिखित प्रश्न में, चार विकल्पों में से, उस विकल्प का चयन करें जो दिए गए शब्द का सही तत्सम रूप वाला विकल्प हो।

नंदोई

Options :

1. * नवति
2. * नक्षत्र
3. ✓ ननंदपति
4. * नापित

Question Number : 164 Question Id : 54592732889 Question Type : MCQ Option Shuffling : Yes

Correct Marks : 1 Wrong Marks : 0.25

निम्नलिखित प्रश्न में, चार विकल्पों में से, उस विकल्प का चयन करें जो विदेशी शब्द का सही विकल्प नहीं हो।

Options :

1. * जागीर
2. * गोश्त
3. ✓ खर्टाटा
4. * हवालात

Question Number : 164 Question Id : 54592732889 Question Type : MCQ Option Shuffling : Yes

Correct Marks : 1 Wrong Marks : 0.25

निम्नलिखित प्रश्न में, चार विकल्पों में से, उस विकल्प का चयन करें जो विदेशी शब्द का सही विकल्प नहीं हो।

Options :

1. * जागीर
2. * गोश्त
3. ✓ खर्टाटा
4. * हवालात

Question Number : 165 Question Id : 54592732890 Question Type : MCQ Option Shuffling : Yes

Correct Marks : 1 Wrong Marks : 0.25

निम्नलिखित प्रश्न में, चार विकल्पों में से, उस विकल्प का चयन करें जो विशेषण के भेद वाला विकल्प हो।

पुस्तकालय में असंख्य पुस्तकें हैं।

Options :

1. ✓ अनिश्चित संख्यावाचक
2. * अनिश्चित परिमाणवाचक
3. * गुणवाचक
4. * संख्यावाचक

Question Number : 165 Question Id : 54592732890 Question Type : MCQ Option Shuffling : Yes

Correct Marks : 1 Wrong Marks : 0.25

निम्नलिखित प्रश्न में, चार विकल्पों में से, उस विकल्प का चयन करें जो विशेषण के भेद वाला विकल्प हो।

पुस्तकालय में असंख्य पुस्तकें हैं।

Options :

1. ✓ अनिश्चित संख्यावाचक
2. * अनिश्चित परिमाणवाचक
3. * गुणवाचक
4. * संख्यावाचक

Question Number : 166 Question Id : 54592732891 Question Type : MCQ Option Shuffling : Yes

Correct Marks : 1 Wrong Marks : 0.25

निम्नलिखित प्रश्न में, चार विकल्पों में से, उस विकल्प का चयन करें जो दिए गए शब्द के पर्यायवाची शब्द का विकल्प नहीं है।

गीदड़

Options :

1. * जंबुक
2. * श्रृंगाल
3. ✓ विधु
4. * सियार

Question Number : 166 Question Id : 54592732891 Question Type : MCQ Option Shuffling : Yes

Correct Marks : 1 Wrong Marks : 0.25

निम्नलिखित प्रश्न में, चार विकल्पों में से, उस विकल्प का चयन करें जो दिए गए शब्द के पर्यायवाची शब्द का विकल्प नहीं है।

गीदड़

Options :

1. * जंबुक
2. * श्रृंगाल
3. ✓ विधु
4. * सियार

Question Number : 167 Question Id : 54592732892 Question Type : MCQ Option Shuffling : Yes

Correct Marks : 1 Wrong Marks : 0.25

निम्नलिखित प्रश्न में, चार विकल्पों में से, उस विकल्प का चयन करें जो दिए गए शब्द के विलोम शब्द का सही विकल्प है।

अलभ्य

Options :

1. * प्रलाभ्य
2. ✓ लभ्य

3. * सलभ्य

4. * सुलभ्य

Question Number : 167 Question Id : 54592732892 Question Type : MCQ Option Shuffling : Yes
Correct Marks : 1 Wrong Marks : 0.25

निम्नलिखित प्रश्न में, चार विकल्पों में से, उस विकल्प का चयन करें जो दिए गए शब्द के विलोम शब्द का सही विकल्प है।

अलभ्य

Options :

1. * प्रलाभ्य

2. ✓ लभ्य

3. * सलभ्य

4. * सुलभ्य

Question Number : 168 Question Id : 54592732893 Question Type : MCQ Option Shuffling : Yes
Correct Marks : 1 Wrong Marks : 0.25

निम्नलिखित प्रश्न में, चार विकल्पों में से, उस सही विकल्प का चयन करें जो दिए गए शब्द-युग्म के अर्थ का सही विकल्प हो।

अभिराम - अविराम

Options :

1. * आज और कल

2. * सुंदर और टिकाऊ

3. * चलना और रुकना

4. ✓ सुंदर और लगातार

Question Number : 168 Question Id : 54592732893 Question Type : MCQ Option Shuffling : Yes
Correct Marks : 1 Wrong Marks : 0.25

निम्नलिखित प्रश्न में, चार विकल्पों में से, उस सही विकल्प का चयन करें जो दिए गए शब्द-युग्म के अर्थ का सही विकल्प हो।

अभिराम - अविराम

Options :

1. * आज और कल
2. * सुंदर और टिकाऊ
3. * चलना और रुकना
4. ✓ सुंदर और लगातार

Question Number : 169 Question Id : 54592732894 Question Type : MCQ Option Shuffling : Yes

Correct Marks : 1 Wrong Marks : 0.25

निम्नलिखित प्रश्न में, चार विकल्पों में से, उस विकल्प का चयन करें जो दिए गए वाक्यांश के लिए एक शब्द का सही विकल्प है।

आदेश जो निश्चित अवधि तक लागु हो।

Options :

1. ✓ अध्यादेश
2. * अद्घातन
3. * अधिकृत
4. * अधिसूचना

Question Number : 169 Question Id : 54592732894 Question Type : MCQ Option Shuffling : Yes

Correct Marks : 1 Wrong Marks : 0.25

निम्नलिखित प्रश्न में, चार विकल्पों में से, उस विकल्प का चयन करें जो दिए गए वाक्यांश के लिए एक शब्द का सही विकल्प है।

आदेश जो निश्चित अवधि तक लागु हो।

Options :

1. ✓ अध्यादेश
2. ✘ अद्ध्यातन
3. ✘ अधिकृत
4. ✘ अधिसूचना

Question Number : 170 Question Id : 54592732895 Question Type : MCQ Option Shuffling : Yes
Correct Marks : 1 Wrong Marks : 0.25

निम्नलिखित प्रश्न में, चार विकल्पों में से, उस सही विकल्प का चयन करें जो रिक्त स्थान के लिए उचित विकल्प हो।

छात्रों ने परीक्षा की _____ बढ़ाने की माँग की

Options :

1. ✘ अवधी
2. ✘ अविध
3. ✓ अवधि
4. ✘ अविधि

Question Number : 170 Question Id : 54592732895 Question Type : MCQ Option Shuffling : Yes
Correct Marks : 1 Wrong Marks : 0.25

निम्नलिखित प्रश्न में, चार विकल्पों में से, उस सही विकल्प का चयन करें जो रिक्त स्थान के लिए उचित विकल्प हो।

छात्रों ने परीक्षा की _____ बढ़ाने की माँग की

Options :

1. ✘ अवधी
2. ✘ अविध
3. ✓ अवधि
4. ✘ अविधि

Question Number : 171 Question Id : 54592732896 Question Type : MCQ Option Shuffling : Yes
Correct Marks : 1 Wrong Marks : 0.25

निम्नलिखित प्रश्न में, चार विकल्पों में से, उस विकल्प का चयन करें जो दिए गए शब्द के समानार्थी शब्द का विकल्प नहीं है।

दांत

Options :

1. * दंत
2. * द्विज
3. ✓ किंकर
4. * रद

Question Number : 171 Question Id : 54592732896 Question Type : MCQ Option Shuffling : Yes
Correct Marks : 1 Wrong Marks : 0.25

निम्नलिखित प्रश्न में, चार विकल्पों में से, उस विकल्प का चयन करें जो दिए गए शब्द के समानार्थी शब्द का विकल्प नहीं है।

दांत

Options :

1. * दंत
2. * दिवज
3. ✓ किंकर
4. * रद

Question Number : 172 Question Id : 54592732897 Question Type : MCQ Option Shuffling : Yes
Correct Marks : 1 Wrong Marks : 0.25

निम्नलिखित प्रश्न में, चार विकल्पों में से, उस विकल्प का चयन करें जो रिक्त स्थान के लिए उपयुक्त शब्द का सही विकल्प है।

बड़ों की निंदा करने से स्वयं की ही _____ होती है।

Options :

1. * विकास
2. * नाम
3. * प्रगति
4. ✓ हानि

Question Number : 172 Question Id : 54592732897 Question Type : MCQ Option Shuffling : Yes
Correct Marks : 1 Wrong Marks : 0.25

निम्नलिखित प्रश्न में, चार विकल्पों में से, उस विकल्प का चयन करें जो रिक्त स्थान के लिए उपयुक्त शब्द का सही विकल्प है।

बड़ों की निंदा करने से स्वयं की ही _____ होती है।

Options :

1. * विकास
2. * नाम
3. * प्रगति
4. ✓ हानि

Question Number : 173 Question Id : 54592732898 Question Type : MCQ Option Shuffling : Yes
Correct Marks : 1 Wrong Marks : 0.25

निम्नलिखित प्रश्न में, चार विकल्पों में से, उस विकल्प का चयन करें जो शुद्ध शब्द का सही विकल्प है।

Options :

1. * सिमीताता
2. ✓ सीमितता
3. * सीमीतता
4. * सिमित्ता

Question Number : 173 Question Id : 54592732898 Question Type : MCQ Option Shuffling : Yes
Correct Marks : 1 Wrong Marks : 0.25

निम्नलिखित प्रश्न में, चार विकल्पों में से, उस विकल्प का चयन करें जो शुद्ध शब्द का सही विकल्प है।

Options :

1. * सिमीताता
2. ✓ सीमितता
3. * सीमीतता
4. * सिमित्ता

Question Number : 174 Question Id : 54592732899 Question Type : MCQ Option Shuffling : Yes

Correct Marks : 1 Wrong Marks : 0.25

निम्नलिखित प्रश्न में, चार विकल्पों में से, उस विकल्प का चयन करें जो शुद्ध शब्द का सही विकल्प है।

Options :

1. * जीर्णोधर
2. * जिनोधर
3. * जिरनोधर
4. ✓ जीर्णोद्धार

Question Number : 174 Question Id : 54592732899 Question Type : MCQ Option Shuffling : Yes

Correct Marks : 1 Wrong Marks : 0.25

निम्नलिखित प्रश्न में, चार विकल्पों में से, उस विकल्प का चयन करें जो शुद्ध शब्द का सही विकल्प है।

Options :

1. * जीर्णोधर
2. * जिनोधर
3. * जिरनोधर
4. ✓ जीर्णोद्धार

Question Number : 175 Question Id : 54592732900 Question Type : MCQ Option Shuffling : Yes

Correct Marks : 1 Wrong Marks : 0.25

निम्नलिखित प्रश्न में, चार विकल्पों में से, उस विकल्प का चयन करें जो शुद्ध शब्द का सही विकल्प है।

Options :

1. ✓ प्रत्युत्तर
2. ✘ परयुत्तर
3. ✘ प्रत्युत्तत्र
4. ✘ प्रत्यूत्तर

Question Number : 175 Question Id : 54592732900 Question Type : MCQ Option Shuffling : Yes

Correct Marks : 1 Wrong Marks : 0.25

निम्नलिखित प्रश्न में, चार विकल्पों में से, उस विकल्प का चयन करें जो शुद्ध शब्द का सही विकल्प है।

Options :

1. ✓ प्रत्युत्तर
2. ✘ परयुत्तर
3. ✘ प्रत्युत्तत्र
4. ✘ प्रत्यूत्तर

Question Number : 176 Question Id : 54592732901 Question Type : MCQ Option Shuffling : Yes

Correct Marks : 1 Wrong Marks : 0.25

निम्नलिखित प्रश्न में, चार विकल्पों में से, उस विकल्प का चयन करें जो सदा पुल्लिंग शब्द वाला सही विकल्प है।

Options :

1. ✘ अंग्रेजी
2. ✓ क्षेत्र
3. ✘ सब्जी
4. ✘ भरणी

Question Number : 176 Question Id : 54592732901 Question Type : MCQ Option Shuffling : Yes

Correct Marks : 1 Wrong Marks : 0.25

निम्नलिखित प्रश्न में, चार विकल्पों में से, उस विकल्प का चयन करें जो सदा पुल्लिंग शब्द वाला सही विकल्प है।

Options :

1. ✖ अंग्रेजी
2. ✔ क्षेत्र
3. ✖ सब्ज़ी
4. ✖ भरणी

Question Number : 177 Question Id : 54592732902 Question Type : MCQ Option Shuffling : Yes

Correct Marks : 1 Wrong Marks : 0.25

निम्नलिखित प्रश्न में, चार विकल्पों में से, उस विकल्प का चयन करें जो दिए गए शब्द का सही स्त्रीलिंग वाला शब्द है।

क्षत्रिय

Options :

1. ✖ क्षतरानी
2. ✔ क्षत्राणी
3. ✖ क्षत्रनी
4. ✖ क्षात्रानी

Question Number : 177 Question Id : 54592732902 Question Type : MCQ Option Shuffling : Yes

Correct Marks : 1 Wrong Marks : 0.25

निम्नलिखित प्रश्न में, चार विकल्पों में से, उस विकल्प का चयन करें जो दिए गए शब्द का सही स्त्रीलिंग वाला शब्द है।

क्षत्रिय

Options :

1. ✖ क्षतरानी
2. ✔ क्षत्राणी

3. * क्षत्रनी

4. * क्षात्रानी

Question Number : 178 Question Id : 54592732903 Question Type : MCQ Option Shuffling : Yes

Correct Marks : 1 Wrong Marks : 0.25

निम्नलिखित प्रश्न में, चार विकल्पों में से, उस विकल्प का चयन करें जो दिए गए शब्द के लिए बहुवचन शब्द का सबसे अच्छा विकल्प है।

बहू

Options :

1. * बहूँ

2. ✓ बहूँ

3. * बहुये

4. * बहुवें

Question Number : 178 Question Id : 54592732903 Question Type : MCQ Option Shuffling : Yes

Correct Marks : 1 Wrong Marks : 0.25

निम्नलिखित प्रश्न में, चार विकल्पों में से, उस विकल्प का चयन करें जो दिए गए शब्द के लिए बहुवचन शब्द का सबसे अच्छा विकल्प है।

बहू

Options :

1. * बहूँ

2. ✓ बहूँ

3. * बहुये

4. * बहुवें

Question Number : 179 Question Id : 54592732904 Question Type : MCQ Option Shuffling : Yes

Correct Marks : 1 Wrong Marks : 0.25

निम्नलिखित प्रश्न में, चार विकल्पों में से, उस विकल्प का चयन करें जो कोष्ठक में दिए गए शब्द के अनुसार उत्तम पुरुष वाचक सर्वनाम का सबसे अच्छा विकल्प है।

Options :

1. ✓ (हम) अभी कार्य में व्यस्त हैं।
2. * (तुम) कहाँ जा रहे हो?
3. * (आप) घर कैसे जाएँगे?
4. * (यह) मेरा काम है।

Question Number : 179 Question Id : 54592732904 Question Type : MCQ Option Shuffling : Yes

Correct Marks : 1 Wrong Marks : 0.25

निम्नलिखित प्रश्न में, चार विकल्पों में से, उस विकल्प का चयन करें जो कोष्ठक में दिए गए शब्द के अनुसार उत्तम पुरुष वाचक सर्वनाम का सबसे अच्छा विकल्प है।

Options :

1. ✓ (हम) अभी कार्य में व्यस्त हैं।
2. * (तुम) कहाँ जा रहे हो?
3. * (आप) घर कैसे जाएँगे?
4. * (यह) मेरा काम है।

Question Number : 180 Question Id : 54592732905 Question Type : MCQ Option Shuffling : Yes

Correct Marks : 1 Wrong Marks : 0.25

निम्नलिखित प्रश्न में, चार विकल्पों में से, उस विकल्प का चयन करें जो दिए गए वाक्य के काल का सही विकल्प हो।

मैं अभी गाँव से आया हूँ।

Options :

1. ✓ आसन्न भूतकाल
2. * संदिग्ध भूतकाल
3. * अपूर्ण भूतकाल
4. * हेतुहेतु मद
भूतकाल

Question Number : 180 Question Id : 54592732905 Question Type : MCQ Option Shuffling : Yes

Correct Marks : 1 Wrong Marks : 0.25

निम्नलिखित प्रश्न में, चार विकल्पों में से, उस विकल्प का चयन करें जो दिए गए वाक्य के काल का सही विकल्प हो।

मैं अभी गाँव से आया हूँ।

Options :

1. ✓ आसन्न भूतकाल
2. * संदिग्ध भूतकाल
3. * अपूर्ण भूतकाल
4. * हेतुहेतु मद
भूतकाल

General Hindi2

Group Number :	10
Group Id :	5459271630
Group Maximum Duration :	0
Group Minimum Duration :	120
Show Attended Group? :	No
Edit Attended Group? :	No
Break time:	0
Group Marks:	20
Is this Group for Examiner?:	No
Revisit allowed for group Instructions? :	Yes
Maximum Instruction Time:	0
Minimum Instruction Time:	0

General Hindi2

Section Id :	5459271630
Section Number :	1
Section type :	Online
Mandatory or Optional:	Mandatory
Number of Questions:	16
Number of Questions to be attempted:	16
Section Marks:	20

Sub-Section Id:

5459271955

Question Shuffling Allowed :

Yes

Question Number : 181 Question Id : 54592732906 Question Type : MCQ Option Shuffling : Yes

Correct Marks : 1 Wrong Marks : 0.25

निम्नलिखित प्रश्न में, चार विकल्पों में से, उस विकल्प का चयन करें जो दिए गए वाक्य के लिए वृत्ति के भेद का सबसे अच्छा विकल्प है।

लगता है कि आज का भोजन स्वादिष्ट बना है।

Options :

1. ✓ संभावनार्थ
2. * संदेहार्थ
3. * संकेतार्थ
4. * विध्यर्थ

Question Number : 181 Question Id : 54592732906 Question Type : MCQ Option Shuffling : Yes

Correct Marks : 1 Wrong Marks : 0.25

निम्नलिखित प्रश्न में, चार विकल्पों में से, उस विकल्प का चयन करें जो दिए गए वाक्य के लिए वृत्ति के भेद का सबसे अच्छा विकल्प है।

लगता है कि आज का भोजन स्वादिष्ट बना है।

Options :

1. ✓ संभावनार्थ
2. * संदेहार्थ
3. * संकेतार्थ
4. * विध्यर्थ

Question Number : 182 Question Id : 54592732907 Question Type : MCQ Option Shuffling : Yes

Correct Marks : 1 Wrong Marks : 0.25

निम्नलिखित प्रश्न में, चार विकल्पों में से, उस विकल्प का चयन करें जो दिए गए वाक्य के लिए पक्ष के भेद का सबसे अच्छा विकल्प है।

शैली कितना अच्छा तबला बजा रही है।

Options :

1. ✓ सातप्यबोधक
2. * नित्यताद्योतक
3. * प्रगतिद्योतक
4. * आरंभद्योतक

Question Number : 182 Question Id : 54592732907 Question Type : MCQ Option Shuffling : Yes

Correct Marks : 1 Wrong Marks : 0.25

निम्नलिखित प्रश्न में, चार विकल्पों में से, उस विकल्प का चयन करें जो दिए गए वाक्य के लिए पक्ष के भेद का सबसे अच्छा विकल्प है।

शैली कितना अच्छा तबला बजा रही है।

Options :

1. ✓ सातप्यबोधक
2. * नित्यताद्योतक
3. * प्रगतिद्योतक
4. * आरंभद्योतक

Question Number : 183 Question Id : 54592732908 Question Type : MCQ Option Shuffling : Yes

Correct Marks : 1 Wrong Marks : 0.25

निम्न विकल्पों में से निर्देशानुसार वाच्य परिवर्तन का विकल्प चुनिए।

मैंने खाना खाया (कर्मवाच्य)

Options :

1. * मुझसे खाया नहीं जाता।
2. * खाना मैंने खाया।

3. ✓ मुझसे खाना खाया गया।

4. * मैंने खाया खाना।

Question Number : 183 Question Id : 54592732908 Question Type : MCQ Option Shuffling : Yes

Correct Marks : 1 Wrong Marks : 0.25

निम्न विकल्पों में से निर्देशानुसार वाच्य परिवर्तन का विकल्प चुनिए।

मैंने खाना खाया (कर्मवाच्य)

Options :

1. * मुझसे खाया नहीं जाता।

2. * खाना मैंने खाया।

3. ✓ मुझसे खाना खाया गया।

4. * मैंने खाया खाना।

Question Number : 184 Question Id : 54592732909 Question Type : MCQ Option Shuffling : Yes

Correct Marks : 1 Wrong Marks : 0.25

निम्नलिखित प्रश्न में, चार विकल्पों में से, उस विकल्प का चयन करें जो सही वाक्य भेद का विकल्प हो।

दीपक भागता रहता है।

Options :

1. * मिश्र वाक्य

2. * संयुक्त वाक्य

3. * निषेधवाचक वाक्य

4. ✓ सरल वाक्य

Question Number : 184 Question Id : 54592732909 Question Type : MCQ Option Shuffling : Yes

Correct Marks : 1 Wrong Marks : 0.25

निम्नलिखित प्रश्न में, चार विकल्पों में से, उस विकल्प का चयन करें जो सही वाक्य भेद का विकल्प हो।

दीपक भागता रहता है।

Options :

1. * मिश्र वाक्य
2. * संयुक्त वाक्य
3. * निषेधवाचक वाक्य
4. ✓ सरल वाक्य

Question Number : 185 Question Id : 54592732910 Question Type : MCQ Option Shuffling : Yes

Correct Marks : 1 Wrong Marks : 0.25

निम्नलिखित प्रश्न में, चार विकल्पों में से, उस विकल्प का चयन करें जो सही वाक्य भेद का विकल्प हो।

मैं जानता हूँ कि तुम्हें पढ़ने में परेशानी होती है।

Options :

1. * सरल वाक्य
2. * संयुक्त वाक्य
3. * निषेधवाचक वाक्य
4. ✓ मिश्र वाक्य

Question Number : 185 Question Id : 54592732910 Question Type : MCQ Option Shuffling : Yes

Correct Marks : 1 Wrong Marks : 0.25

निम्नलिखित प्रश्न में, चार विकल्पों में से, उस विकल्प का चयन करें जो सही वाक्य भेद का विकल्प हो।

मैं जानता हूँ कि तुम्हें पढ़ने में परेशानी होती है।

Options :

1. * सरल वाक्य
2. * संयुक्त वाक्य
3. * निषेधवाचक वाक्य
4. ✓ मिश्र वाक्य

Question Number : 186 Question Id : 54592732911 Question Type : MCQ Option Shuffling : Yes
Correct Marks : 1 Wrong Marks : 0.25

निम्नलिखित प्रश्न में, चार विकल्पों में से, उस विकल्प का चयन करें जो सही वाक्य भेद का विकल्प हो।

अमित ने वह घर खरीदा जो उसके चाचा का था।

Options :

1. * सरल वाक्य
2. * संयुक्त वाक्य
3. * निषेधवाचक वाक्य
4. ✓ मिश्र वाक्य

Question Number : 186 Question Id : 54592732911 Question Type : MCQ Option Shuffling : Yes
Correct Marks : 1 Wrong Marks : 0.25

निम्नलिखित प्रश्न में, चार विकल्पों में से, उस विकल्प का चयन करें जो सही वाक्य भेद का विकल्प हो।

अमित ने वह घर खरीदा जो उसके चाचा का था।

Options :

1. * सरल वाक्य
2. * संयुक्त वाक्य
3. * निषेधवाचक वाक्य
4. ✓ मिश्र वाक्य

Question Number : 187 Question Id : 54592732912 Question Type : MCQ Option Shuffling : Yes
Correct Marks : 1 Wrong Marks : 0.25

निम्नलिखित प्रश्न में, चार विकल्पों में से, उस विकल्प का चयन करें जो शुद्ध वाक्य का सबसे अच्छा विकल्प है।

Options :

1. ✓ उसने संतोष की साँस ली।
2. * उसने संतोष का साँस ली।
3. * उसने साँस लि संतोष की
4. * उसने संतोष लि साँस की

Question Number : 187 Question Id : 54592732912 Question Type : MCQ Option Shuffling : Yes
Correct Marks : 1 Wrong Marks : 0.25

निम्नलिखित प्रश्न में, चार विकल्पों में से, उस विकल्प का चयन करें जो शुद्ध वाक्य का सबसे अच्छा विकल्प है।

Options :

1. ✓ उसने संतोष की साँस ली।
2. * उसने संतोष का साँस ली।
3. * उसने साँस लि संतोष की
4. * उसने संतोष लि साँस की

Question Number : 188 Question Id : 54592732913 Question Type : MCQ Option Shuffling : Yes
Correct Marks : 1 Wrong Marks : 0.25

निम्नलिखित प्रश्न में, चार विकल्पों में से, उस विकल्प का चयन करें जो विराम चिह्न युक्त वाक्य का सही विकल्प हो।

Options :

1. * नहीं मैं नहीं चल सकता हँ, तुम जाना चाहो तो चले जाओ।
2. * नहीं, मैं नहीं चल सकता हँ, तुम जाना चाहो तो चले जाओ।
3. * 'नहीं मैं नहीं चल सकता। 'हँ, तुम जाना चाहो तो चले जाओ।
4. ✓ नहीं, मैं नहीं चल सकता। हँ, तुम जाना चाहो तो चले जाओ।

Question Number : 188 Question Id : 54592732913 Question Type : MCQ Option Shuffling : Yes
Correct Marks : 1 Wrong Marks : 0.25

निम्नलिखित प्रश्न में, चार विकल्पों में से, उस विकल्प का चयन करें जो विराम चिह्न युक्त वाक्य का सही विकल्प हो।

Options :

1. ✖ नहीं मैं नहीं चल सकता हूँ, तुम जाना चाहो तो चले जाओ।
2. ✖ नहीं, मैं नहीं चल सकता हूँ, तुम जाना चाहो तो चले जाओ।
3. ✖ 'नहीं मैं नहीं चल सकता। "हाँ, तुम जाना चाहो तो चले जाओ।
4. ✔ नहीं, मैं नहीं चल सकता। हूँ, तुम जाना चाहो तो चले जाओ।

Question Number : 189 Question Id : 54592732914 Question Type : MCQ Option Shuffling : Yes

Correct Marks : 1 Wrong Marks : 0.25

निम्नलिखित प्रश्न में, चार विकल्पों में से, उस विकल्प का चयन करें जो विराम चिह्न युक्त वाक्य का सही विकल्प हो।

Options :

1. ✔ माँ ने कहा था, " तुम सब मिलकर साथ में रहना।"
2. ✖ माँ ने कहा था "तुम सब मिलकर साथ में रहना।"
3. ✖ माँ ने कहा था - तुम सब मिलकर साथ में रहना।"
4. ✖ माँ ने कहा था, "तुम सब मिलकर साथ में रहना"

Question Number : 189 Question Id : 54592732914 Question Type : MCQ Option Shuffling : Yes

Correct Marks : 1 Wrong Marks : 0.25

निम्नलिखित प्रश्न में, चार विकल्पों में से, उस विकल्प का चयन करें जो विराम चिह्न युक्त वाक्य का सही विकल्प हो।

Options :

1. ✔ माँ ने कहा था, " तुम सब मिलकर साथ में रहना।"
2. ✖ माँ ने कहा था "तुम सब मिलकर साथ में रहना।"
3. ✖ माँ ने कहा था - तुम सब मिलकर साथ में रहना।"
4. ✖ माँ ने कहा था, "तुम सब मिलकर साथ में रहना"

Question Number : 190 Question Id : 54592732915 Question Type : MCQ Option Shuffling : Yes

Correct Marks : 1 Wrong Marks : 0.25

निम्नलिखित प्रश्न में, चार विकल्पों में से, उस विकल्प का चयन करें जो विराम चिह्न युक्त वाक्य का सही विकल्प हो।

Options :

1. ✓ अध्यापक (चिल्लाते हुए) "निकल जाओ कक्षा से।"
2. * अध्यापक (चिल्लाते हुए) निकल जाओ कक्षा से।
3. * अध्यापक चिल्लाते हुए "निकल जाओ कक्षा से।"
4. * अध्यापक चिल्लाते हुए- "निकल जाओ कक्षा से।"

Question Number : 190 Question Id : 54592732915 Question Type : MCQ Option Shuffling : Yes

Correct Marks : 1 Wrong Marks : 0.25

निम्नलिखित प्रश्न में, चार विकल्पों में से, उस विकल्प का चयन करें जो विराम चिह्न युक्त वाक्य का सही विकल्प हो।

Options :

1. ✓ अध्यापक (चिल्लाते हुए) "निकल जाओ कक्षा से।"
2. * अध्यापक (चिल्लाते हुए) निकल जाओ कक्षा से।
3. * अध्यापक चिल्लाते हुए "निकल जाओ कक्षा से।"
4. * अध्यापक चिल्लाते हुए- "निकल जाओ कक्षा से।"

Question Number : 191 Question Id : 54592732916 Question Type : MCQ Option Shuffling : Yes

Correct Marks : 1 Wrong Marks : 0.25

निम्नलिखित प्रश्न में, चार विकल्पों में से, उस विकल्प का चयन करें जो दिए गए मुहावरे के लिए सही अर्थ वाला विकल्प है।

भाँप लेना।

Options :

1. * दुखी होना।
2. * कठिन काम करना।
3. * पानी की भाँप लेना।
4. ✓ पहचान लेना।

Question Number : 191 Question Id : 54592732916 Question Type : MCQ Option Shuffling : Yes

Correct Marks : 1 Wrong Marks : 0.25

निम्नलिखित प्रश्न में, चार विकल्पों में से, उस विकल्प का चयन करें जो दिए गए मुहावरे के लिए सही अर्थ वाला विकल्प है।

भाँप लेना।

Options :

1. * दुखी होना।
2. * कठिन काम करना।
3. * पानी की भाँप लेना।
4. ✓ पहचान लेना।

Question Number : 192 Question Id : 54592732917 Question Type : MCQ Option Shuffling : Yes

Correct Marks : 1 Wrong Marks : 0.25

निम्नलिखित प्रश्न में, चार विकल्पों में से, उस विकल्प का चयन करें जो दिए गए मुहावरे के लिए सही अर्थ वाला विकल्प है।

सूक्ति - बाण चलाना

Options :

1. ✓ व्यंग्यपूर्ण बातें कहना।
2. * लड़ाई-झगड़ा करना।
3. * तीरंदाजी सीखना।
4. * सूखे बाण चलाना।

Question Number : 192 Question Id : 54592732917 Question Type : MCQ Option Shuffling : Yes

Correct Marks : 1 Wrong Marks : 0.25

निम्नलिखित प्रश्न में, चार विकल्पों में से, उस विकल्प का चयन करें जो दिए गए मुहावरे के लिए सही अर्थ वाला विकल्प है।

सूक्ति - बाण चलाना

Options :

1. ✓ व्यंग्यपूर्ण बातें कहना।

2. * लड़ाई-झगड़ा करना।

3. * तीरंदाजी सीखना।

4. * सूखे बाण चलाना।

Question Number : 193 Question Id : 54592732918 Question Type : MCQ Option Shuffling : Yes

Correct Marks : 1 Wrong Marks : 0.25

निम्नलिखित प्रश्न में, चार विकल्पों में से, उस विकल्प का चयन करें जो दिए गए मुहावरे के लिए सही अर्थ वाला विकल्प है।

कौड़ी-कौड़ी पर जान देना।

Options :

1. * आसान काम नहीं

2. * नष्ट हो जाना

3. * अत्यधिक सस्ता होना

4. ✓ कंजूस होना

Question Number : 193 Question Id : 54592732918 Question Type : MCQ Option Shuffling : Yes

Correct Marks : 1 Wrong Marks : 0.25

निम्नलिखित प्रश्न में, चार विकल्पों में से, उस विकल्प का चयन करें जो दिए गए मुहावरे के लिए सही अर्थ वाला विकल्प है।

कौड़ी-कौड़ी पर जान देना।

Options :

1. * आसान काम नहीं

2. * नष्ट हो जाना

3. * अत्यधिक सस्ता होना

4. ✓ कंजूस होना

Question Number : 194 Question Id : 54592732919 Question Type : MCQ Option Shuffling : Yes
Correct Marks : 1 Wrong Marks : 0.25

निम्नलिखित प्रश्न में, चार विकल्पों में से, उस सही विकल्प का चयन करें जो दिए गए वाक्यांश के लिए सही लोकोक्ति वाला विकल्प है।

समय निकल जाने पर प्रयत्न करना व्यर्थ है।

Options :

1. * एक तो करेला दूसरे नीम चढ़ा
2. * ओस चाटे प्यास नहीं बुझती
3. ✓ का वर्षा जब कृषि सुखाने
4. * काठ की हांडी बार-बार नहीं चढ़ती

Question Number : 194 Question Id : 54592732919 Question Type : MCQ Option Shuffling : Yes
Correct Marks : 1 Wrong Marks : 0.25

निम्नलिखित प्रश्न में, चार विकल्पों में से, उस सही विकल्प का चयन करें जो दिए गए वाक्यांश के लिए सही लोकोक्ति वाला विकल्प है।

समय निकल जाने पर प्रयत्न करना व्यर्थ है।

Options :

1. * एक तो करेला दूसरे नीम चढ़ा
2. * ओस चाटे प्यास नहीं बुझती
3. ✓ का वर्षा जब कृषि सुखाने
4. * काठ की हांडी बार-बार नहीं चढ़ती

Question Number : 195 Question Id : 54592732920 Question Type : MCQ Option Shuffling : Yes
Correct Marks : 1 Wrong Marks : 0.25

निम्नलिखित प्रश्न में, चार विकल्पों में से, उस विकल्प का चयन करें जो दिए गए वाक्यांश के लिए सही लोकोक्ति वाला विकल्प है।

कोई संबंध नहीं

Options :

1. * यथा नाम तथा गुण
2. ✓ लेना एक न देना दो
3. * नत मस्तक होना
4. * उसका हाथ जगन्नाथ

Question Number : 195 Question Id : 54592732920 Question Type : MCQ Option Shuffling : Yes
Correct Marks : 1 Wrong Marks : 0.25

निम्नलिखित प्रश्न में, चार विकल्पों में से, उस विकल्प का चयन करें जो दिए गए वाक्यांश के लिए सही लोकोक्ति वाला विकल्प है।

कोई संबंध नहीं

Options :

1. * यथा नाम तथा गुण
2. ✓ लेना एक न देना दो
3. * नत मस्तक होना
4. * उसका हाथ जगन्नाथ

Sub-Section Number:	2
Sub-Section Id:	5459271956
Question Shuffling Allowed :	Yes

Question Id : 54592732921 Question Type : COMPREHENSION Sub Question Shuffling Allowed : Yes Group Comprehension Questions : No

Question Numbers : (196 to 200)

Question Label : Comprehension

नीचे दिए गये गद्यांश के बाद 5 प्रश्न दिए गये हैं। इस गद्यांश को ध्यानपूर्वक पढ़ें और चार विकल्पों में से प्रत्येक प्रश्न का सर्वोत्तम उत्तर चुनें।

भाग्यवादी व्यक्ति आलसी तथा निकम्मा तो हो ही जाता है, वह अपने समूचे व्यक्तित्व और जीवन को दुखी भी बना लेता है। वह यह नहीं सोचता कि ईश्वर ने उसे ठीक बुद्धि दी है, सोचने-समझने की शक्ति दी है, अनेक प्रकार की शक्तियाँ प्रदान की है और ये सारी वस्तुएँ इसीलिए दी हैं कि इन सबका उचित तथा सुसाधित प्रयोग करके वह पुरुषार्थ के मार्ग पर अग्रसर होकर अपने जीवन को सुखी तथा समृद्ध बना ले। इस प्रकार पूर्णतया भाग्यवाद के चक्कर में पड़कर मनुष्य युगों-युगों से चालाक लोगों के हाथों शोषित तथा पीड़ित होता आ रहा है। वह भाग्य को पूर्वजन्म के कर्मों का परिणाम मानता आ रहा है। एक सलाहकार का बेटा बिना परिश्रम किए ही अपने पिता की गद्दी का वारिस बन जाता है। अतः भाग्यवादी मान्यताओं के अनुसार स्पष्ट है कि यहाँ पूर्वजन्म के कर्मों के रूप में उसको सब-कुछ प्राप्त हुआ है। भाग्य और पूर्वजन्म के कर्मों के रूप में उसका भोग प्रत्येक व्यक्ति के लिए अनिवार्य है। उससे बच पाना कठिन ही नहीं बल्कि असंभव भी है।

Sub questions

Question Number : 196 Question Id : 54592732922 Question Type : MCQ Option Shuffling : Yes

Correct Marks : 1 Wrong Marks : 0.25

अनुच्छेद के अनुसार ईश्वर ने भाग्यवादी व्यक्तियों को अनेक शक्तियाँ क्यों दी है?

Options :

1. * आलसी जीवन व्यतीत कर सके
2. * बिना सोचे-समझे रह सके
3. ✓ पुरुषार्थ के मार्ग पर चल सके
4. * अपना फायदा कर सके

Question Number : 197 Question Id : 54592732923 Question Type : MCQ Option Shuffling : Yes

Correct Marks : 1 Wrong Marks : 0.25

मनुष्य का शोषण किन लोगो के द्वारा होता आया है?

Options :

1. * बुद्धिहीन लोगों से
2. ✓ चतुर लोगों से
3. * समाज के द्वारा
4. * अपने लोगों से

Question Number : 198 Question Id : 54592732924 Question Type : MCQ Option Shuffling : Yes

Correct Marks : 1 Wrong Marks : 0.25

भाग्यवादी मान्यताओं के अनुसार मनुष्य को सब-कुछ कैसे प्राप्त होता आया है?

Options :

1. ✓ पूर्व जन्मों के कर्म समझ कर
2. * भविष्य की गतिविधि के रूप में
3. * सलाहकार के रूप में
4. * पुरुषार्थ के रूप में

Question Number : 199 Question Id : 54592732925 Question Type : MCQ Option Shuffling : Yes

Correct Marks : 1 Wrong Marks : 0.25

इनमें से कौन - सा अनिवार्य का पर्यायवाची नहीं है?

Options :

1. * आवश्यक
2. * अवश्यभावी
3. * अत्यावश्यक
4. ✓ अनावश्यक

Question Number : 200 Question Id : 54592732926 Question Type : MCQ Option Shuffling : Yes

Correct Marks : 1 Wrong Marks : 0.25

इस अनुच्छेद का कोई उपयुक्त शीर्षक:

Options :

1. * व्यक्ति व उसका कार्य
2. * मनुष्यता
3. ✓ भाग्यवाद
4. * मनुष्य व कर्म

Question Id : 54592732921 Question Type : COMPREHENSION Sub Question Shuffling Allowed : Yes Group Comprehension Questions : No

Question Numbers : (196 to 200)

Question Label : Comprehension

नीचे दिए गये गद्यांश के बाद 5 प्रश्न दिए गये हैं। इस गद्यांश को ध्यानपूर्वक पढ़ें और चार विकल्पों में से प्रत्येक प्रश्न का सर्वोत्तम उत्तर चुनें।

भाग्यवादी व्यक्ति आलसी तथा निकम्मा तो हो ही जाता है, वह अपने समूचे व्यक्तित्व और जीवन को दुखी भी बना लेता है। वह यह नहीं सोचता कि ईश्वर ने उसे ठीक बुद्धि दी है, सोचने-समझने की शक्ति दी है, अनेक प्रकार की शक्तियाँ प्रदान की हैं और ये सारी वस्तुएँ इसीलिए दी हैं कि इन सबका उचित तथा सुसाधित प्रयोग करके वह पुरुषार्थ के मार्ग पर अग्रसर होकर अपने जीवन को सुखी तथा समृद्ध बना ले। इस प्रकार पूर्णतया भाग्यवाद के चक्कर में पड़कर मनुष्य युगों-युगों से चालाक लोगों के हाथों शोषित तथा पीड़ित होता आ रहा है। वह भाग्य को पूर्वजन्म के कर्मों का परिणाम मानता आ रहा है। एक सलाहकार का बेटा बिना परिश्रम किए ही अपने पिता की गद्दी का वारिस बन जाता है। अतः भाग्यवादी मान्यताओं के अनुसार स्पष्ट है कि यहाँ पूर्वजन्म के कर्मों के रूप में उसको सब-कुछ प्राप्त हुआ है। भाग्य और पूर्वजन्म के कर्मों के रूप में उसका भोग प्रत्येक व्यक्ति के लिए अनिवार्य है। उससे बच पाना कठिन ही नहीं बल्कि असंभव भी है।

Sub questions

Question Number : 196 Question Id : 54592732922 Question Type : MCQ Option Shuffling : Yes

Correct Marks : 1 Wrong Marks : 0.25

अनुच्छेद के अनुसार ईश्वर ने भाग्यवादी व्यक्तियों को अनेक शक्तियाँ क्यों दी हैं?

Options :

1. * आलसी जीवन व्यतीत कर सके
2. * बिना सोचे-समझे रह सके
3. ✓ पुरुषार्थ के मार्ग पर चल सके

4. * अपना फायदा कर सके

Question Number : 197 Question Id : 54592732923 Question Type : MCQ Option Shuffling : Yes
Correct Marks : 1 Wrong Marks : 0.25

मनुष्य का शोषण किन लोगों के द्वारा होता आया है?

Options :

1. * बुद्धिहीन लोगों से
2. ✓ चतुर लोगों से
3. * समाज के द्वारा
4. * अपने लोगों से

Question Number : 198 Question Id : 54592732924 Question Type : MCQ Option Shuffling : Yes
Correct Marks : 1 Wrong Marks : 0.25

भाग्यवादी मान्यताओं के अनुसार मनुष्य को सब-कुछ कैसे प्राप्त होता आया है?

Options :

1. ✓ पूर्व जन्मों के कर्म समझ कर
2. * भविष्य की गतिविधि के रूप में
3. * सलाहकार के रूप में
4. * पुरुषार्थ के रूप में

Question Number : 199 Question Id : 54592732925 Question Type : MCQ Option Shuffling : Yes
Correct Marks : 1 Wrong Marks : 0.25

इनमें से कौन - सा अनिवार्य का पर्यायवाची नहीं है?

Options :

1. * आवश्यक
2. * अवश्यभावी
3. * अत्यावश्यक
4. ✓ अनावश्यक

Question Number : 200 Question Id : 54592732926 Question Type : MCQ Option Shuffling : Yes
Correct Marks : 1 Wrong Marks : 0.25

इस अनुच्छेद का कोई उपयुक्त शीर्षक:

Options :

1. ✖ व्यक्ति व उसका कार्य
2. ✖ मनुष्यता
3. ✔ भाग्यवाद
4. ✖ मनुष्य व कर्म