

Education Consultant India Ltd.

Notations :

- 1.Options shown in green color and with ✓ icon are correct.
- 2.Options shown in red color and with ✘ icon are incorrect.

Question Paper Name:	Radiographer
Subject Name:	Radiographer
Creation Date:	2019-08-30 11:58:29
Duration:	120
Total Marks:	200
Display Marks:	Yes
Share Answer Key With Delivery Engine:	No
Actual Answer Key:	Yes
Calculator:	None
Magnifying Glass Required?:	No
Ruler Required?:	No
Eraser Required?:	No
Scratch Pad Required?:	No
Rough Sketch/Notepad Required?:	No
Protractor Required?:	No
Show Watermark on Console?:	Yes
Highlighter:	No
Auto Save on Console?:	No

Mental Ability

Group Number :	1
Group Id :	966231274
Group Maximum Duration :	0
Group Minimum Duration :	0
Revisit allowed for view? :	No
Revisit allowed for edit? :	No
Break time:	0
Group Marks:	20
Revisit allowed for group Instructions? :	Yes
Maximum Instruction Time:	0
Minimum Instruction Time:	0

Mental Ability

Section Id :	966231389
Section Number :	1
Section type :	Online
Mandatory or Optional:	Mandatory
Number of Questions:	20
Number of Questions to be attempted:	20
Section Marks:	20

Display Number Panel: Yes
Group All Questions: No

Sub-Section Number: 1
Sub-Section Id: 966231439
Question Shuffling Allowed : Yes

Question Number : 1 Question Id : 9662319651 Question Type : MCQ Option Shuffling : Yes Display Question Number : Yes
Single Line Question Option : No Option Orientation : Vertical

Correct Marks : 1 Wrong Marks : 0.25

From the given alternatives, select the word which CANNOT be formed using the letters of the given word.

REIMBURSED

Options :

- ✘ BURIED
- ✘ SUREID
- ✔ BURST
- ✘ DEBRIS

Question Number : 1 Question Id : 9662319651 Question Type : MCQ Option Shuffling : Yes Display Question Number : Yes
Single Line Question Option : No Option Orientation : Vertical

Correct Marks : 1 Wrong Marks : 0.25

दिए गए विकल्पों में से वह शब्द चुनिए जो दिए गए शब्द के अक्षरों का प्रयोग करके नहीं बनाया जा सकता है।

REIMBURSED

Options :

- ✘ BURIED
- ✘ SUREID
- ✔ BURST
- ✘ DEBRIS

Question Number : 2 Question Id : 9662319652 Question Type : MCQ Option Shuffling : Yes Display Question Number : Yes
Single Line Question Option : No Option Orientation : Vertical

Correct Marks : 1 Wrong Marks : 0.25

In the following question, select the odd word from the given alternatives.

Options :

- ✘ Paragraph
- ✘ Sentence
- ✘ Word
- ✔ Digit

Question Number : 2 Question Id : 9662319652 Question Type : MCQ Option Shuffling : Yes Display Question Number : Yes
Single Line Question Option : No Option Orientation : Vertical

Correct Marks : 1 Wrong Marks : 0.25

निम्नलिखित प्रश्न में दिए गए विकल्पों में से विषम शब्द को चुनिए।

Options :

- ✘ पैराग्राफ
- ✘ वाक्य
- ✘ शब्द

4. ✓ अंक

Question Number : 3 Question Id : 9662319653 Question Type : MCQ Option Shuffling : Yes Display Question Number : Yes
Single Line Question Option : No Option Orientation : Vertical

Correct Marks : 1 Wrong Marks : 0.25

In the following question, select the odd letter /letters from the given alternatives.

Options :

1. ✗ LOUD
2. ✓ JMSA
3. ✗ DGMV
4. ✗ SVEK

Question Number : 3 Question Id : 9662319653 Question Type : MCQ Option Shuffling : Yes Display Question Number : Yes
Single Line Question Option : No Option Orientation : Vertical

Correct Marks : 1 Wrong Marks : 0.25

निम्नलिखित प्रश्न में दिए गए विकल्पों में से विषम अक्षर/अक्षरों को चुनिए।

Options :

1. ✗ LOUD
2. ✓ JMSA
3. ✗ DGMV
4. ✗ SVEK

Question Number : 4 Question Id : 9662319654 Question Type : MCQ Option Shuffling : Yes Display Question Number : Yes
Single Line Question Option : No Option Orientation : Vertical

Correct Marks : 1 Wrong Marks : 0.25

In the following question, select the related letters from the given alternatives.

LJ : QO :: AK : ?

Options :

1. ✓ FP
2. ✗ FR
3. ✗ GK
4. ✗ GR

Question Number : 4 Question Id : 9662319654 Question Type : MCQ Option Shuffling : Yes Display Question Number : Yes
Single Line Question Option : No Option Orientation : Vertical

Correct Marks : 1 Wrong Marks : 0.25

निम्नलिखित प्रश्न में दिए गए विकल्पों में से संबंधित अक्षरों को चुनिए।

LJ : QO :: AK : ?

Options :

1. ✓ FP
2. ✗ FR
3. ✗ GK
4. ✗ GR

Question Number : 5 Question Id : 9662319655 Question Type : MCQ Option Shuffling : Yes Display Question Number : Yes
Single Line Question Option : No Option Orientation : Vertical

Correct Marks : 1 Wrong Marks : 0.25

In a certain code language, 'ROBAT' is written as 'MJWVO'. What is the code for 'CRANE' in that code language?

Options :

1. ✓ XMVIZ
2. ✗ XMUIZ
3. ✗ YNWJA
4. ✗ YNWJB

Question Number : 5 Question Id : 9662319655 Question Type : MCQ Option Shuffling : Yes Display Question Number : Yes Single Line Question Option : No Option Orientation : Vertical

Correct Marks : 1 Wrong Marks : 0.25

एक विशिष्ट कोड भाषा में, 'ROBAT' को 'MJWVO' लिखा जाता है। इस कोड भाषा में 'CRANE' का कोड क्या है?

Options :

1. ✓ XMVIZ
2. ✗ XMUIZ
3. ✗ YNWJA
4. ✗ YNWJB

Question Number : 6 Question Id : 9662319656 Question Type : MCQ Option Shuffling : Yes Display Question Number : Yes Single Line Question Option : No Option Orientation : Vertical

Correct Marks : 1 Wrong Marks : 0.25

In a certain code language, 'TRACKR' is written as 'SJDZSS'. What is the code for 'POINTG' in that code language?

Options :

1. ✗ HROHPO
2. ✗ ITPJQP
3. ✗ ITPIQP
4. ✓ HSOHPO

Question Number : 6 Question Id : 9662319656 Question Type : MCQ Option Shuffling : Yes Display Question Number : Yes Single Line Question Option : No Option Orientation : Vertical

Correct Marks : 1 Wrong Marks : 0.25

एक विशिष्ट कोड भाषा में, 'TRACKR' को 'SJDZSS' लिखा जाता है। इस कोड भाषा में 'POINTG' का कोड क्या है?

Options :

1. ✗ HROHPO
2. ✗ ITPJQP
3. ✗ ITPIQP
4. ✓ HSOHPO

Question Number : 7 Question Id : 9662319657 Question Type : MCQ Option Shuffling : Yes Display Question Number : Yes Single Line Question Option : No Option Orientation : Vertical

Correct Marks : 1 Wrong Marks : 0.25

Five articles H, M, N, P and Q are kept one above the other (not necessarily in the same order). There are two articles between P and M. There are two articles between H and Q. H is above Q. Q is just below P. How many articles are between M and Q?

Options :

1. ✗ 2
2. ✗ 1
3. ✓ 3

4. ✘ 0

Question Number : 7 Question Id : 9662319657 Question Type : MCQ Option Shuffling : Yes Display Question Number : Yes
Single Line Question Option : No Option Orientation : Vertical

Correct Marks : 1 Wrong Marks : 0.25

पाँच वस्तुएँ H, M, N, P तथा Q एक के ऊपर एक रखी गयी है (जरूरी नहीं की इसी क्रम में हो)। P तथा M के मध्य दो वस्तुएँ हैं। क्रमशः H तथा Q के मध्य दो वस्तुएँ हैं। H, Q के ऊपर है। Q, P के ठीक नीचे है। M तथा Q के मध्य कितनी वस्तुएँ हैं?

Options :

1. ✘ 2

2. ✘ 1

3. ✔ 3

4. ✘ 0

Question Number : 8 Question Id : 9662319658 Question Type : MCQ Option Shuffling : Yes Display Question Number : Yes
Single Line Question Option : No Option Orientation : Vertical

Correct Marks : 1 Wrong Marks : 0.25

In the following question below are given some statements followed by some conclusions based on those statements. Taking the given statements to be true even if they seem to be at variance from commonly known facts. Read all the conclusions and then decide which of the given conclusion logically follows the given statements.

Statements:

I. Some white are black.

II. Some red are white.

Conclusion:

I. All red are black.

II. No red is black.

III. All black are white.

Options :

1. ✘ Both conclusion I and II follow

2. ✘ Both conclusion II and III follow

3. ✘ Only conclusion II follow

4. ✔ Neither Conclusion follow

Question Number : 8 Question Id : 9662319658 Question Type : MCQ Option Shuffling : Yes Display Question Number : Yes
Single Line Question Option : No Option Orientation : Vertical

Correct Marks : 1 Wrong Marks : 0.25

नीचे दिए गए प्रश्न में कुछ कथन और उनके बाद उन कथनों पर आधारित कुछ निष्कर्ष दिए गए हैं। दिए गए कथनों को सही माने, चाहे उनमें सामान्य ज्ञात तथ्यों से भिन्नता हो। सभी निष्कर्ष पढ़ें और फिर निर्धारित करें कि दिए गए कौन से निष्कर्ष, दिए गए कथनों के आधार पर युक्तिसंगत हैं।

कथन:

I. कुछ सफेद काले हैं।

II. कुछ लाल सफेद हैं।

निष्कर्ष:

I. सभी लाल काले हैं।

II. कोई लाला काला नहीं है।

III. सभी काला सफेद हैं।

Options :

1. ✘ दोनों निष्कर्ष I तथा II अनुसरण करते हैं।

2. ✘ दोनों निष्कर्ष II तथा III अनुसरण करते हैं।

3. ✘ केवल निष्कर्ष II अनुसरण करता है।

4. ✓ कोई भी निष्कर्ष अनुसर नहीं करता है

Question Number : 9 Question Id : 9662319659 Question Type : MCQ Option Shuffling : Yes Display Question Number : Yes
Single Line Question Option : No Option Orientation : Vertical

Correct Marks : 1 Wrong Marks : 0.25

In the following question, four number pairs are given. The number on left side of (-) is related to the number of the right side of (-) with some Logic/Rule/Relation. Three are similar on basis of same Logic/Rule/Relation. Select the odd one out from the given alternatives.

Options :

1. ✗ 7 - 23
2. ✗ 3 - 11
3. ✗ 11 - 35
4. ✓ 17 - 54

Question Number : 9 Question Id : 9662319659 Question Type : MCQ Option Shuffling : Yes Display Question Number : Yes
Single Line Question Option : No Option Orientation : Vertical

Correct Marks : 1 Wrong Marks : 0.25

नीचे दिए गए प्रश्न में, चार संख्या युग्म दिए गए हैं (-) के बायीं ओर दी गई संख्या (-) के दायीं ओर दी गई संख्या से किसी तर्क/नियम/संबंध से संबंधित है। तीन उसी एक तर्क/नियम/संबंध के आधार पर समान हैं। दिए गए विकल्पों में से विषम को चुनिए।

Options :

1. ✗ 7 - 23
2. ✗ 3 - 11
3. ✗ 11 - 35
4. ✓ 17 - 54

Question Number : 10 Question Id : 9662319660 Question Type : MCQ Option Shuffling : Yes Display Question Number : Yes
Single Line Question Option : No Option Orientation : Vertical

Correct Marks : 1 Wrong Marks : 0.25

In the following question, select the related number from the given alternatives.

19 : 361 :: 13 : ?

Options :

1. ✗ 196
2. ✗ 170
3. ✓ 169
4. ✗ 226

Question Number : 10 Question Id : 9662319660 Question Type : MCQ Option Shuffling : Yes Display Question Number : Yes
Single Line Question Option : No Option Orientation : Vertical

Correct Marks : 1 Wrong Marks : 0.25

निम्नलिखित प्रश्न में दिए गए विकल्पों में से संबंधित संख्या को चुनिए।

19 : 361 :: 13 : ?

Options :

1. ✗ 196
2. ✗ 170
3. ✓ 169
4. ✗ 226

Question Number : 11 Question Id : 9662319661 Question Type : MCQ Option Shuffling : Yes Display Question Number : Yes
Single Line Question Option : No Option Orientation : Vertical

Correct Marks : 1 Wrong Marks : 0.25

By interchanging which two signs the equation will be correct?

$$18 + 13 \times 67 \div 29 - 87 = -180$$

Options :

- ✘ \times and $+$
- ✔ \times and $-$
- ✘ \times and \div
- ✘ \div and $+$

Question Number : 11 Question Id : 9662319661 Question Type : MCQ Option Shuffling : Yes Display Question Number : Yes
Single Line Question Option : No Option Orientation : Vertical

Correct Marks : 1 Wrong Marks : 0.25

किन दो चिह्नों को आपस में परस्पर बदलने पर समीकरण सही हो जाएगा?

$$18 + 13 \times 67 \div 29 - 87 = -180$$

Options :

- ✘ \times तथा $+$
- ✔ \times तथा $-$
- ✘ \times तथा \div
- ✘ \div तथा $+$

Question Number : 12 Question Id : 9662319662 Question Type : MCQ Option Shuffling : Yes Display Question Number : Yes
Single Line Question Option : No Option Orientation : Vertical

Correct Marks : 1 Wrong Marks : 0.25

By interchanging the given two signs which of the following equation will be correct?

\div and \times

Options :

- ✘ $49 \div 7 + 11 \times 3 - 16 = 24$
- ✘ $19 + 13 \div 4 - 16 \times 4 = 57$
- ✔ $13 + 9 \div 6 \times 3 - 43 = -12$
- ✘ $13 + 5 - 18 \div 9 \times 6 = 9$

Question Number : 12 Question Id : 9662319662 Question Type : MCQ Option Shuffling : Yes Display Question Number : Yes
Single Line Question Option : No Option Orientation : Vertical

Correct Marks : 1 Wrong Marks : 0.25

दिए गए दो चिह्नों को आपस में परस्पर बदलने पर निम्नलिखित में से कौन सा समीकरण सही होगा?

\div तथा \times

Options :

- ✘ $49 \div 7 + 11 \times 3 - 16 = 24$
- ✘ $19 + 13 \div 4 - 16 \times 4 = 57$
- ✔ $13 + 9 \div 6 \times 3 - 43 = -12$
- ✘ $13 + 5 - 18 \div 9 \times 6 = 9$

Question Number : 13 Question Id : 9662319663 Question Type : MCQ Option Shuffling : Yes Display Question Number : Yes
Single Line Question Option : No Option Orientation : Vertical

Correct Marks : 1 Wrong Marks : 0.25

In the following question, select the number which can be placed at the sign of question mark (?) from the given alternatives.

11	4	8
6	9	7
13	7	5
18	?	6

Options :

- ✘ 20
- ✘ 12
- ✘ 6
- ✔ 2

Question Number : 13 Question Id : 9662319663 Question Type : MCQ Option Shuffling : Yes Display Question Number : Yes Single Line Question Option : No Option Orientation : Vertical

Correct Marks : 1 Wrong Marks : 0.25

निम्नलिखित प्रश्न में दिए गए विकल्पों में से प्रश्न चिन्ह (?) के स्थान पर आने वाली संख्या को चुनिए

11	4	8
6	9	7
13	7	5
18	?	6

Options :

- ✘ 20
- ✘ 12
- ✘ 6
- ✔ 2

Question Number : 14 Question Id : 9662319664 Question Type : MCQ Option Shuffling : Yes Display Question Number : Yes Single Line Question Option : No Option Orientation : Vertical

Correct Marks : 1 Wrong Marks : 0.25

If $7 @ 3 @ 2 = 327$ and $0 @ 1 @ 2 = 120$, then $6 @ 4 @ 0 = ?$

Options :

- ✘ 460
- ✘ 46
- ✔ 406
- ✘ 640

Question Number : 14 Question Id : 9662319664 Question Type : MCQ Option Shuffling : Yes Display Question Number : Yes Single Line Question Option : No Option Orientation : Vertical

Correct Marks : 1 Wrong Marks : 0.25

यदि $7 @ 3 @ 2 = 327$ तथा $0 @ 1 @ 2 = 120$ हो, तो $6 @ 4 @ 0 = ?$

Options :

- ✘ 460
- ✘ 46
- ✔ 406

4. ✖ 640

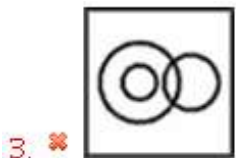
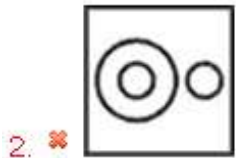
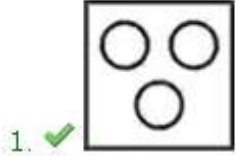
Question Number : 15 Question Id : 9662319665 Question Type : MCQ Option Shuffling : Yes Display Question Number : Yes
Single Line Question Option : No Option Orientation : Vertical

Correct Marks : 1 Wrong Marks : 0.25

Identify the diagram that best represents the relationship among the given classes.

Leaves, Bat, Ball

Options :




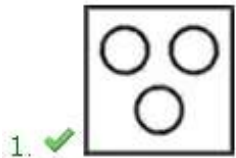
Question Number : 15 Question Id : 9662319665 Question Type : MCQ Option Shuffling : Yes Display Question Number : Yes
Single Line Question Option : No Option Orientation : Vertical

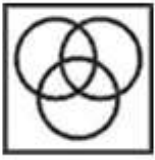
Correct Marks : 1 Wrong Marks : 0.25

वह आरेख चुनिए जो नीचे दिए गए वर्गों के बीच के संबंध का सही निरूपण करता है।

पत्तियाँ, बल्ला, गेंद

Options :





4. ✖

Question Number : 16 Question Id : 9662319666 Question Type : MCQ Option Shuffling : Yes Display Question Number : Yes Single Line Question Option : No Option Orientation : Vertical

Correct Marks : 1 Wrong Marks : 0.25

Kamlesh starts walking towards south and walks 20 km. He turns left and walks 5 km. He again turns left and walks 8 km. In which direction and how far is he from his starting point?

Options :

1. ✖ 13 km, north - east
2. ✖ 13 km, south
3. ✔ 13 km, south - east
4. ✖ 13 km, south - west

Question Number : 16 Question Id : 9662319666 Question Type : MCQ Option Shuffling : Yes Display Question Number : Yes Single Line Question Option : No Option Orientation : Vertical

Correct Marks : 1 Wrong Marks : 0.25

कमलेश दक्षिण की ओर चलना आरंभ करता है तथा 20 कि.मी. चलता है। वह बायें मुड़ता है तथा 5 कि.मी. चलता है। वह पुनः बायें मुड़ता है तथा 8 कि.मी. चलता है। वह अपने आरंभिक बिंदु से किस दिशा में तथा कितनी दूरी पर है?

Options :

1. ✖ 13 कि.मी., उत्तर - पूर्व
2. ✖ 13 कि.मी., दक्षिण
3. ✔ 13 कि.मी., दक्षिण - पूर्व
4. ✖ 13 कि.मी., दक्षिण - पश्चिम

Question Number : 17 Question Id : 9662319667 Question Type : MCQ Option Shuffling : Yes Display Question Number : Yes Single Line Question Option : No Option Orientation : Vertical

Correct Marks : 1 Wrong Marks : 0.25

By folding the given paper, which of the following cube cannot be formed?



Options :



1. ✖



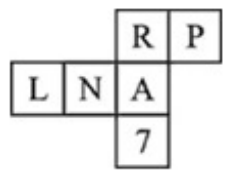
2. ✖



Question Number : 17 Question Id : 9662319667 Question Type : MCQ Option Shuffling : Yes Display Question Number : Yes
 Single Line Question Option : No Option Orientation : Vertical

Correct Marks : 1 Wrong Marks : 0.25

दिए गए कागज को मोड़ने पर, निम्नलिखित में से कौन सा घन नहीं बनाया जा सकता है?



Options :

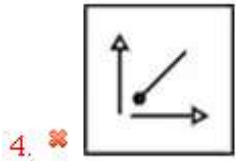
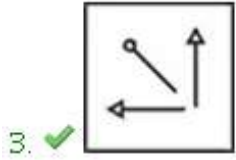
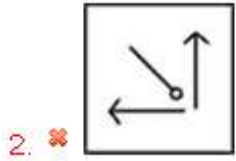
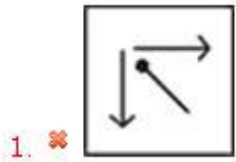


Question Number : 18 Question Id : 9662319668 Question Type : MCQ Option Shuffling : Yes Display Question Number : Yes
 Single Line Question Option : No Option Orientation : Vertical

Correct Marks : 1 Wrong Marks : 0.25

In the following question, select the odd figure from the given alternatives.

Options :

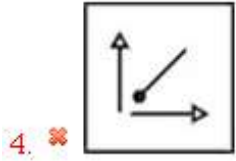
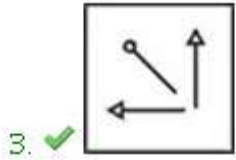
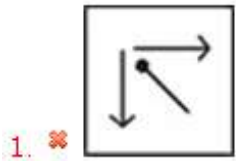


Question Number : 18 Question Id : 9662319668 Question Type : MCQ Option Shuffling : Yes Display Question Number : Yes
Single Line Question Option : No Option Orientation : Vertical

Correct Marks : 1 Wrong Marks : 0.25

निम्नलिखित प्रश्न में, दिए गए विकल्पों में से विषम आकृति को चुनिए।

Options :

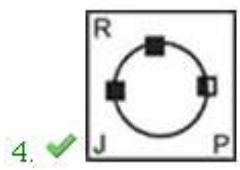
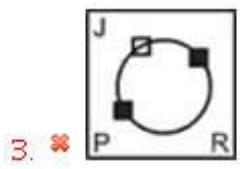
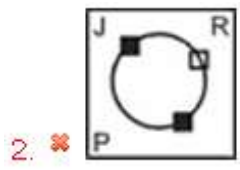
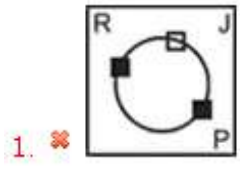


Question Number : 19 Question Id : 9662319669 Question Type : MCQ Option Shuffling : Yes Display Question Number : Yes
Single Line Question Option : No Option Orientation : Vertical

Correct Marks : 1 Wrong Marks : 0.25

In the following question, select the odd figure from the given alternatives.

Options :

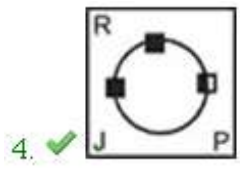
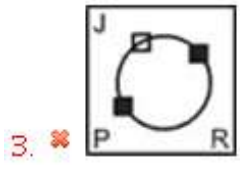
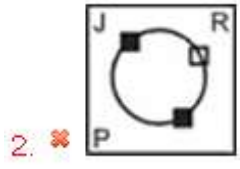
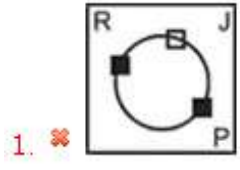


Question Number : 19 Question Id : 9662319669 Question Type : MCQ Option Shuffling : Yes Display Question Number : Yes Single Line Question Option : No Option Orientation : Vertical

Correct Marks : 1 Wrong Marks : 0.25

निम्नलिखित प्रश्न में, दिए गए विकल्पों में से विषम आकृति को चुनिए

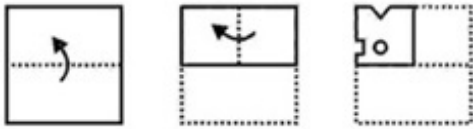
Options :



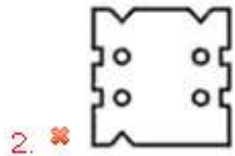
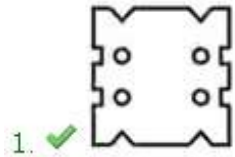
Question Number : 20 Question Id : 9662319670 Question Type : MCQ Option Shuffling : Yes Display Question Number : Yes Single Line Question Option : No Option Orientation : Vertical

Correct Marks : 1 Wrong Marks : 0.25

A piece of paper is folded and punched as shown below in the question figures. From the given answer figures, indicate how it will appear when opened?



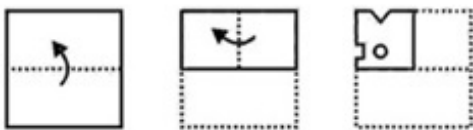
Options :



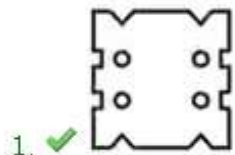
Question Number : 20 Question Id : 9662319670 Question Type : MCQ Option Shuffling : Yes Display Question Number : Yes Single Line Question Option : No Option Orientation : Vertical

Correct Marks : 1 Wrong Marks : 0.25

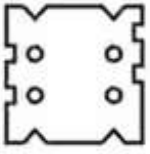
नीचे के प्रश्न आकृतियों में दिखाए अनुसार कागज को मोड़कर छेदने तथा खोलने के बाद वह किस उत्तर आकृति जैसा दिखाई देगा?



Options :



4. ✘



General Awareness

Group Number :	2
Group Id :	966231275
Group Maximum Duration :	0
Group Minimum Duration :	0
Revisit allowed for view? :	No
Revisit allowed for edit? :	No
Break time:	0
Group Marks:	20
Revisit allowed for group Instructions? :	Yes
Maximum Instruction Time:	0
Minimum Instruction Time:	0

General Awareness

Section Id :	966231390
Section Number :	1
Section type :	Online
Mandatory or Optional:	Mandatory
Number of Questions:	20
Number of Questions to be attempted:	20
Section Marks:	20
Display Number Panel:	Yes
Group All Questions:	No

Sub-Section Number:	1
Sub-Section Id:	966231440
Question Shuffling Allowed :	Yes

Question Number : 21 Question Id : 9662319671 Question Type : MCQ Option Shuffling : Yes Display Question Number : Yes
Single Line Question Option : No Option Orientation : Vertical

Correct Marks : 1 Wrong Marks : 0.25

Meenakshi Temple is located in which state?

Options :

1. ✘ Kerala
2. ✔ Tamil Nadu
3. ✘ Karnataka
4. ✘ Goa

Question Number : 21 Question Id : 9662319671 Question Type : MCQ Option Shuffling : Yes Display Question Number : Yes
Single Line Question Option : No Option Orientation : Vertical

Correct Marks : 1 Wrong Marks : 0.25

मीनाक्षी मंदिर किस राज्य में स्थित है?

Options :

- ✘ केरल
- ✔ तमिलनाडु
- ✘ कर्नाटक
- ✘ गोवा

Question Number : 22 Question Id : 9662319672 Question Type : MCQ Option Shuffling : Yes Display Question Number : Yes
Single Line Question Option : No Option Orientation : Vertical

Correct Marks : 1 Wrong Marks : 0.25

Which of the following festival is celebrated in Rajasthan?

Options :

- ✘ Rann Utsav
- ✘ Onam
- ✔ Kajli Teej
- ✘ Pongal

Question Number : 22 Question Id : 9662319672 Question Type : MCQ Option Shuffling : Yes Display Question Number : Yes
Single Line Question Option : No Option Orientation : Vertical

Correct Marks : 1 Wrong Marks : 0.25

राजस्थान में निम्नलिखित में से कौन सा त्योहार मनाया जाता है?

Options :

- ✘ रण उत्सव
- ✘ ओणम
- ✔ कजली तीज
- ✘ पोंगल

Question Number : 23 Question Id : 9662319673 Question Type : MCQ Option Shuffling : Yes Display Question Number : Yes
Single Line Question Option : No Option Orientation : Vertical

Correct Marks : 1 Wrong Marks : 0.25

Ka Pomblang Nongkrem festival is celebrated in which state?

Options :

- ✔ Meghalaya
- ✘ Odisha
- ✘ West Bengal
- ✘ Assam

Question Number : 23 Question Id : 9662319673 Question Type : MCQ Option Shuffling : Yes Display Question Number : Yes
Single Line Question Option : No Option Orientation : Vertical

Correct Marks : 1 Wrong Marks : 0.25

का पोम्बलंग नोंगक्रेम त्यौहार किस राज्य में मनाया जाता है?

Options :

- ✔ मेघालय
- ✘ ओडिशा
- ✘ पश्चिम बंगाल
- ✘ असम

Question Number : 24 Question Id : 9662319674 Question Type : MCQ Option Shuffling : Yes Display Question Number : Yes
Single Line Question Option : No Option Orientation : Vertical

Correct Marks : 1 Wrong Marks : 0.25

_____ for any firm are its debts or what it owes to others.

Options :

1. ✘ Assets
2. ✔ Liabilities
3. ✘ Capital
4. ✘ Cash Flow

Question Number : 24 Question Id : 9662319674 Question Type : MCQ Option Shuffling : Yes Display Question Number : Yes
Single Line Question Option : No Option Orientation : Vertical

Correct Marks : 1 Wrong Marks : 0.25

किसी भी फर्म के लिए _____ उसके ऋण होते हैं या वह जो दूसरों का बकाया है

Options :

1. ✘ परिसंपत्तियाँ
2. ✔ देयताएं
3. ✘ पूंजी
4. ✘ रोकड़ प्रवाह

Question Number : 25 Question Id : 9662319675 Question Type : MCQ Option Shuffling : Yes Display Question Number : Yes
Single Line Question Option : No Option Orientation : Vertical

Correct Marks : 1 Wrong Marks : 0.25

For which of the following crops does government fix MSP(Minimum Support Price)?

- I. Paddy
- II. Jowar
- III. Bajra

Options :

1. ✘ I and II
2. ✘ II and III
3. ✘ III and I
4. ✔ I, II and III

Question Number : 25 Question Id : 9662319675 Question Type : MCQ Option Shuffling : Yes Display Question Number : Yes
Single Line Question Option : No Option Orientation : Vertical

Correct Marks : 1 Wrong Marks : 0.25

निम्नलिखित में से किस फसल के लिए सरकार एमएसपी (न्यूनतम समर्थन मूल्य) तय करती है?

- I. धान
- II. ज्वार
- III. बाजरा

Options :

1. ✘ I तथा II
2. ✘ II तथा III
3. ✘ III तथा I
4. ✔ I, II तथा III

Question Number : 26 Question Id : 9662319676 Question Type : MCQ Option Shuffling : Yes Display Question Number : Yes
Single Line Question Option : No Option Orientation : Vertical

Correct Marks : 1 Wrong Marks : 0.25

Disease caused by iron deficiency is called _____.

Options :

1. ✘ Goitre
2. ✘ Scurvy
3. ✔ Anaemia
4. ✘ Rickets

Question Number : 26 Question Id : 9662319676 Question Type : MCQ Option Shuffling : Yes Display Question Number : Yes
Single Line Question Option : No Option Orientation : Vertical

Correct Marks : 1 Wrong Marks : 0.25

आयरन की कमी से होने वाले रोग को _____ कहा जाता है।

Options :

1. ✘ ग्वाइटर
2. ✘ स्कर्वी
3. ✔ अरक्तता
4. ✘ रिकेट्स

Question Number : 27 Question Id : 9662319677 Question Type : MCQ Option Shuffling : Yes Display Question Number : Yes
Single Line Question Option : No Option Orientation : Vertical

Correct Marks : 1 Wrong Marks : 0.25

_____ coloured clothes will be most effective in summer.

Options :

1. ✘ Black
2. ✔ White
3. ✘ Red
4. ✘ Sky Blue

Question Number : 27 Question Id : 9662319677 Question Type : MCQ Option Shuffling : Yes Display Question Number : Yes
Single Line Question Option : No Option Orientation : Vertical

Correct Marks : 1 Wrong Marks : 0.25

_____ रंग के कपड़े गर्मियों में सबसे प्रभावी होंगे।

Options :

1. ✘ काले
2. ✔ सफेद
3. ✘ लाल
4. ✘ आसमानी नीला

Question Number : 28 Question Id : 9662319678 Question Type : MCQ Option Shuffling : Yes Display Question Number : Yes
Single Line Question Option : No Option Orientation : Vertical

Correct Marks : 1 Wrong Marks : 0.25

The destruction of the soil cover is called _____.

Options :

1. ✔ Soil Erosion
2. ✘ Soil Spoiling
3. ✘ Soil Conservation
4. ✘ Abrasion

Question Number : 28 Question Id : 9662319678 Question Type : MCQ Option Shuffling : Yes Display Question Number : Yes
Single Line Question Option : No Option Orientation : Vertical

Correct Marks : 1 Wrong Marks : 0.25

मिट्टी के आवरण के नष्ट होने को _____ कहा जाता है।

Options :

- ✓ भू-क्षरण
- ✗ मिट्टी की कटाई
- ✗ मृदा-संरक्षण
- ✗ चर्षण

Question Number : 29 Question Id : 9662319679 Question Type : MCQ Option Shuffling : Yes Display Question Number : Yes
Single Line Question Option : No Option Orientation : Vertical

Correct Marks : 1 Wrong Marks : 0.25

_____ is separated from India by a narrow channel of sea, formed by Palk Strait and the Gulf of Mannar.

Options :

- ✗ Bangladesh
- ✗ Afghanistan
- ✗ Pakistan
- ✓ Sri Lanka

Question Number : 29 Question Id : 9662319679 Question Type : MCQ Option Shuffling : Yes Display Question Number : Yes
Single Line Question Option : No Option Orientation : Vertical

Correct Marks : 1 Wrong Marks : 0.25

_____ भारत से पाक जलसंधि और मन्नार की खाड़ी द्वारा बने समुद्र के एक संकीर्ण चैनल से विभाजित है।

Options :

- ✗ बांग्लादेश
- ✗ अफ़ग़ानिस्तान
- ✗ पाकिस्तान
- ✓ श्री लंका

Question Number : 30 Question Id : 9662319680 Question Type : MCQ Option Shuffling : Yes Display Question Number : Yes
Single Line Question Option : No Option Orientation : Vertical

Correct Marks : 1 Wrong Marks : 0.25

Which Indian river is known as Tsangpo in Tibet?

Options :

- ✗ Ganga
- ✗ Krishna
- ✓ Brahmaputra
- ✗ Kaveri

Question Number : 30 Question Id : 9662319680 Question Type : MCQ Option Shuffling : Yes Display Question Number : Yes
Single Line Question Option : No Option Orientation : Vertical

Correct Marks : 1 Wrong Marks : 0.25

किस भारतीय नदी को तिब्बत में त्सांगपो के नाम से जाना जाता है?

Options :

- ✗ गंगा
- ✗ कृष्णा
- ✓ ब्रह्मपुत्र
- ✗ कावेरी

Question Number : 31 Question Id : 9662319681 Question Type : MCQ Option Shuffling : Yes Display Question Number : Yes
Single Line Question Option : No Option Orientation : Vertical

Correct Marks : 1 Wrong Marks : 0.25

Battle of Plassey was fought in which year?

Options :

1. ✘ 1650
2. ✘ 1750
3. ✘ 1657
4. ✔ 1757

Question Number : 31 Question Id : 9662319681 Question Type : MCQ Option Shuffling : Yes Display Question Number : Yes
Single Line Question Option : No Option Orientation : Vertical

Correct Marks : 1 Wrong Marks : 0.25

प्लासी की लड़ाई किस वर्ष में लड़ी गई थी?

Options :

1. ✘ 1650
2. ✘ 1750
3. ✘ 1657
4. ✔ 1757

Question Number : 32 Question Id : 9662319682 Question Type : MCQ Option Shuffling : Yes Display Question Number : Yes
Single Line Question Option : No Option Orientation : Vertical

Correct Marks : 1 Wrong Marks : 0.25

Which territory was annexed by Subsidiary Alliance?

Options :

1. ✔ Awadh
2. ✘ Satara
3. ✘ Sikkim
4. ✘ Bengal

Question Number : 32 Question Id : 9662319682 Question Type : MCQ Option Shuffling : Yes Display Question Number : Yes
Single Line Question Option : No Option Orientation : Vertical

Correct Marks : 1 Wrong Marks : 0.25

सहायक गठबंधन के द्वारा किस क्षेत्र पर कब्जा किया गया था?

Options :

1. ✔ अवध
2. ✘ सतारा
3. ✘ सिक्किम
4. ✘ बंगाल

Question Number : 33 Question Id : 9662319683 Question Type : MCQ Option Shuffling : Yes Display Question Number : Yes
Single Line Question Option : No Option Orientation : Vertical

Correct Marks : 1 Wrong Marks : 0.25

Ghazi Malik was the founder of the _____ dynasty.

Options :

1. ✘ Mughal
2. ✔ Tughlaq
3. ✘ Mongols
4. ✘ Mauryan

Question Number : 33 Question Id : 9662319683 Question Type : MCQ Option Shuffling : Yes Display Question Number : Yes
Single Line Question Option : No Option Orientation : Vertical

Correct Marks : 1 Wrong Marks : 0.25

गाजी मलिक _____ राजवंश का संस्थापक था।

Options :

1. ✘ मुगल
2. ✔ तुगलक
3. ✘ मंगोल
4. ✘ मौर्य

Question Number : 34 Question Id : 9662319684 Question Type : MCQ Option Shuffling : Yes Display Question Number : Yes
Single Line Question Option : No Option Orientation : Vertical

Correct Marks : 1 Wrong Marks : 0.25

'Statue of Unity' is a statue of which of the following personality?

Options :

1. ✘ Mahatma Gandhi
2. ✘ B.R Ambedkar
3. ✘ Vinayak Damodar Savarkar
4. ✔ Sardar Vallabhbhai Patel

Question Number : 34 Question Id : 9662319684 Question Type : MCQ Option Shuffling : Yes Display Question Number : Yes
Single Line Question Option : No Option Orientation : Vertical

Correct Marks : 1 Wrong Marks : 0.25

'स्टैच्यू ऑफ यूनिटी' निम्नलिखित में से किस शख्सियत की प्रतिमा है?

Options :

1. ✘ महात्मा गांधी
2. ✘ बी. आर. अम्बेडकर
3. ✘ विनायक दामोदर सावरकर
4. ✔ सरदार वल्लभभाई पटेल

Question Number : 35 Question Id : 9662319685 Question Type : MCQ Option Shuffling : Yes Display Question Number : Yes
Single Line Question Option : No Option Orientation : Vertical

Correct Marks : 1 Wrong Marks : 0.25

National Agri-Food Biotechnology Institute, Mohali has done genome editing on which fruit using CRISPR/Cas9 technique?

Options :

1. ✘ Apple
2. ✔ Banana
3. ✘ Mango
4. ✘ Orange

Question Number : 35 Question Id : 9662319685 Question Type : MCQ Option Shuffling : Yes Display Question Number : Yes
Single Line Question Option : No Option Orientation : Vertical

Correct Marks : 1 Wrong Marks : 0.25

राष्ट्रीय कृषि खाद्य जैव प्रौद्योगिकी संस्थान, मोहाली ने CRISPR / Cas9 तकनीक का उपयोग करते हुए किस फल पर जीनोम संपादन किया है?

Options :

1. ✘ सेब
2. ✔ केला
3. ✘ आम
4. ✘ संतरा

Question Number : 36 Question Id : 9662319686 Question Type : MCQ Option Shuffling : Yes Display Question Number : Yes
Single Line Question Option : No Option Orientation : Vertical

Correct Marks : 1 Wrong Marks : 0.25

Part IX of the Indian Constitution deals with _____.

Options :

1. ✓ Panchayats
2. ✗ Municipality
3. ✗ Elections
4. ✗ Citizenship

Question Number : 36 Question Id : 9662319686 Question Type : MCQ Option Shuffling : Yes Display Question Number : Yes
Single Line Question Option : No Option Orientation : Vertical

Correct Marks : 1 Wrong Marks : 0.25

भारतीय संविधान का भाग IX _____ से संबंधित है।

Options :

1. ✓ पंचायतों
2. ✗ नगर पालिकाओं
3. ✗ चुनाव
4. ✗ नागरिकता

Question Number : 37 Question Id : 9662319687 Question Type : MCQ Option Shuffling : Yes Display Question Number : Yes
Single Line Question Option : No Option Orientation : Vertical

Correct Marks : 1 Wrong Marks : 0.25

_____ means citizens have complete freedom to follow any religion.

Options :

1. ✗ Republic
2. ✗ Sovereign
3. ✗ Liberal
4. ✓ Secular

Question Number : 37 Question Id : 9662319687 Question Type : MCQ Option Shuffling : Yes Display Question Number : Yes
Single Line Question Option : No Option Orientation : Vertical

Correct Marks : 1 Wrong Marks : 0.25

_____ का अर्थ है कि नागरिकों को किसी भी धर्म का पालन करने की पूरी स्वतंत्रता है।

Options :

1. ✗ गणतंत्र
2. ✗ प्रभुत्व-सम्पन्न
3. ✗ स्वतंत्रता
4. ✓ धर्म निरपेक्ष

Question Number : 38 Question Id : 9662319688 Question Type : MCQ Option Shuffling : Yes Display Question Number : Yes
Single Line Question Option : No Option Orientation : Vertical

Correct Marks : 1 Wrong Marks : 0.25

Sikkim was added to the Indian Union through which amendment act?

Options :

1. ✗ 10th
2. ✓ 36th
3. ✗ 101st

4. ✖ 30th

Question Number : 38 Question Id : 9662319688 Question Type : MCQ Option Shuffling : Yes Display Question Number : Yes
Single Line Question Option : No Option Orientation : Vertical

Correct Marks : 1 Wrong Marks : 0.25

किस संशोधन अधिनियम के ज़रिये सिक्किम को भारतीय संघ में जोड़ा गया था?

Options :

1. ✖ 10 वॉ

2. ✔ 36 वॉ

3. ✖ 101 वॉ

4. ✖ 30 वॉ

Question Number : 39 Question Id : 9662319689 Question Type : MCQ Option Shuffling : Yes Display Question Number : Yes
Single Line Question Option : No Option Orientation : Vertical

Correct Marks : 1 Wrong Marks : 0.25

Which of the following pairs of player - sport is NOT Matched Correctly?

I. Shikhar Dhawan - Cricket

II. P.R. Sreejesh - Hockey

III. Vijendar Singh - Wrestling

IV. Neeraj Chopra - Javelin Throw

Options :

1. ✖ I

2. ✖ II

3. ✔ III

4. ✖ IV

Question Number : 39 Question Id : 9662319689 Question Type : MCQ Option Shuffling : Yes Display Question Number : Yes
Single Line Question Option : No Option Orientation : Vertical

Correct Marks : 1 Wrong Marks : 0.25

निम्नलिखित में से कौन सा खिलाड़ी - खेल का युग्म सही ढंग से मेल नहीं खाता है?

I. शिखर धवन - क्रिकेट

II. पी.आर. श्रीजेश - हॉकी

III. विजेन्द्र सिंह - कुश्ती

IV. नीरज चोपरा - भाला फेंक

Options :

1. ✖ I

2. ✖ II

3. ✔ III

4. ✖ IV

Question Number : 40 Question Id : 9662319690 Question Type : MCQ Option Shuffling : Yes Display Question Number : Yes
Single Line Question Option : No Option Orientation : Vertical

Correct Marks : 1 Wrong Marks : 0.25

Who among the following was awarded with Dronacharya Award in 2018 in Table Tennis?

Options :

1. ✔ Shri A. Srinivasa Rao

2. ✖ Shri Tarak Sinha

3. ✖ Shri V.R. Beedu

4. ❌ Shri Jiwan Kumar Sharma

Question Number : 40 Question Id : 9662319690 Question Type : MCQ Option Shuffling : Yes Display Question Number : Yes
Single Line Question Option : No Option Orientation : Vertical

Correct Marks : 1 Wrong Marks : 0.25

टेबल टेनिस में 2018 में द्रोणाचार्य पुरस्कार से किसे सम्मानित किया गया था?

Options :

1. ✓ श्री ए. श्रीनिवास राव
2. ❌ श्री तारक सिन्हा
3. ❌ श्री वी. आर. बीड़
4. ❌ श्री जीवन कुमार शर्मा

Arithmetic Ability

Group Number :	3
Group Id :	966231276
Group Maximum Duration :	0
Group Minimum Duration :	0
Revisit allowed for view? :	No
Revisit allowed for edit? :	No
Break time:	0
Group Marks:	20
Revisit allowed for group Instructions? :	Yes
Maximum Instruction Time:	0
Minimum Instruction Time:	0

Arithmetic Ability

Section Id :	966231391
Section Number :	1
Section type :	Online
Mandatory or Optional:	Mandatory
Number of Questions:	20
Number of Questions to be attempted:	20
Section Marks:	20
Display Number Panel:	Yes
Group All Questions:	No

Sub-Section Number:	1
Sub-Section Id:	966231441
Question Shuffling Allowed :	Yes

Question Number : 41 Question Id : 9662319691 Question Type : MCQ Option Shuffling : Yes Display Question Number : Yes
Single Line Question Option : No Option Orientation : Vertical

Correct Marks : 1 Wrong Marks : 0.25

What is the value of: $\frac{4}{3+\sqrt{5}} - \frac{2}{3-\sqrt{5}}$
 $\frac{\quad}{5-2\sqrt{3}}$

Options :

1. ✘ $\frac{3}{20}(\sqrt{5} + \sqrt{6} - \sqrt{8})$

2. ✘ $\frac{5}{\sqrt{15}}(\sqrt{3} + 2\sqrt{5} - 20)$

3. ✔ $\frac{3}{26}(5 + 2\sqrt{3} - 5\sqrt{5} - 2\sqrt{15})$

4. ✘ $\frac{7}{24}(2\sqrt{5} + 4\sqrt{3})$

Question Number : 41 Question Id : 9662319691 Question Type : MCQ Option Shuffling : Yes Display Question Number : Yes
Single Line Question Option : No Option Orientation : Vertical

Correct Marks : 1 Wrong Marks : 0.25

$\frac{\frac{4}{3+\sqrt{5}} - \frac{2}{3-\sqrt{5}}}{5-2\sqrt{3}}$ का मान क्या है?

Options :

1. ✘ $\frac{3}{20}(\sqrt{5} + \sqrt{6} - \sqrt{8})$

2. ✘ $\frac{5}{\sqrt{15}}(\sqrt{3} + 2\sqrt{5} - 20)$

3. ✔ $\frac{3}{26}(5 + 2\sqrt{3} - 5\sqrt{5} - 2\sqrt{15})$

4. ✘ $\frac{7}{24}(2\sqrt{5} + 4\sqrt{3})$

Question Number : 42 Question Id : 9662319692 Question Type : MCQ Option Shuffling : Yes Display Question Number : Yes
Single Line Question Option : No Option Orientation : Vertical

Correct Marks : 1 Wrong Marks : 0.25

If $x = \frac{\sqrt{6} + \sqrt{3}}{\sqrt{6} - \sqrt{3}}$ then what is the value of: $\frac{x+3}{x-3}$

Options :

1. ✘ $\frac{3}{\sqrt{2}}$

2. ✘ $\frac{(2 + 3\sqrt{2})}{\sqrt{2}}$

3. ✔ $\frac{(2 + 3\sqrt{2})}{2}$

4. ✘ $\frac{(\sqrt{2}+3)}{2}$

Question Number : 42 Question Id : 9662319692 Question Type : MCQ Option Shuffling : Yes Display Question Number : Yes
Single Line Question Option : No Option Orientation : Vertical

Correct Marks : 1 Wrong Marks : 0.25

यदि $x = \frac{\sqrt{6} + \sqrt{3}}{\sqrt{6} - \sqrt{3}}$ है, तो $\frac{x+3}{x-3}$ का मान क्या है?

Options :

1. ✘ $\frac{3}{\sqrt{2}}$

2. ✘ $\frac{(2 + 3\sqrt{2})}{\sqrt{2}}$

3. ✔ $\frac{(2 + 3\sqrt{2})}{2}$

4. ✘ $\frac{(\sqrt{2}+3)}{2}$

Question Number : 43 Question Id : 9662319693 Question Type : MCQ Option Shuffling : Yes Display Question Number : Yes
Single Line Question Option : No Option Orientation : Vertical

Correct Marks : 1 Wrong Marks : 0.25

What is the value of: $\sqrt{73 + 6\sqrt{70}} - \sqrt{44 + 16\sqrt{7}}$

Options :

1. ✘ $6 + 2\sqrt{7}$

2. ✔ $\sqrt{10} - \sqrt{7} - 4$

3. ✘ $\sqrt{10} + \sqrt{7} + 6$

4. ✘ $14 - \sqrt{7}$

Question Number : 43 Question Id : 9662319693 Question Type : MCQ Option Shuffling : Yes Display Question Number : Yes
Single Line Question Option : No Option Orientation : Vertical

Correct Marks : 1 Wrong Marks : 0.25

$\sqrt{73 + 6\sqrt{70}} - \sqrt{44 + 16\sqrt{7}}$ का मान क्या है?

Options :

1. ✘ $6 + 2\sqrt{7}$

2. ✔ $\sqrt{10} - \sqrt{7} - 4$

3. ✘ $\sqrt{10} + \sqrt{7} + 6$

4. ✘ $14 - \sqrt{7}$

Question Number : 44 Question Id : 9662319694 Question Type : MCQ Option Shuffling : Yes Display Question Number : Yes
Single Line Question Option : No Option Orientation : Vertical

Correct Marks : 1 Wrong Marks : 0.25

After giving two successive discounts of 10% and 15%, a seller sells a chair for Rs. 765. What is the marked price of the chair?

Options :

1. ✘ Rs. 900

2. ✔ Rs. 1000

3. ✘ Rs. 1200

4. ✘ Rs. 1050

Question Number : 44 Question Id : 9662319694 Question Type : MCQ Option Shuffling : Yes Display Question Number : Yes
Single Line Question Option : No Option Orientation : Vertical

Correct Marks : 1 Wrong Marks : 0.25

एक विक्रेता 10% तथा 15% की दो क्रमिक छूट के पश्चात एक कुर्सी को 765 रुपये की बेचता है। कुर्सी का अंकित मूल्य क्या है?

Options :

1. ✘ 900 रुपये

2. ✔ 1000 रुपये

3. ✘ 1200 रुपये

4. ✘ 1050 रुपये

Question Number : 45 Question Id : 9662319695 Question Type : MCQ Option Shuffling : Yes Display Question Number : Yes
Single Line Question Option : No Option Orientation : Vertical

Correct Marks : 1 Wrong Marks : 0.25

In a class there are 15 students. Average marks of 5 students is 42, average marks of 6 students is 45 and average marks of remaining 4 students is x. If the average marks of the class is $136/3$ marks, then what is the value of x?

Options :

1. ✘ 55

2. ✘ 48

3. ✓ 50

4. ✗ 43

Question Number : 45 Question Id : 9662319695 Question Type : MCQ Option Shuffling : Yes Display Question Number : Yes Single Line Question Option : No Option Orientation : Vertical

Correct Marks : 1 Wrong Marks : 0.25

एक कक्षा में 15 छात्र हैं। 5 छात्रों के औसत अंक 42 हैं, 6 छात्रों के औसत अंक 45 हैं तथा शेष 4 छात्रों के औसत अंक x हैं। यदि कक्षा के औसत अंक $136/3$ हैं, तो x का मान क्या है?

Options :

1. ✗ 55

2. ✗ 48

3. ✓ 50

4. ✗ 43

Question Number : 46 Question Id : 9662319696 Question Type : MCQ Option Shuffling : Yes Display Question Number : Yes Single Line Question Option : No Option Orientation : Vertical

Correct Marks : 1 Wrong Marks : 0.25

The population of a village increases at a rate of 20% per year. What will be the total percentage increase in population after 3 years?

Options :

1. ✓ 72.8 percent

2. ✗ 70 percent

3. ✗ 71.4 percent

4. ✗ 60 percent

Question Number : 46 Question Id : 9662319696 Question Type : MCQ Option Shuffling : Yes Display Question Number : Yes Single Line Question Option : No Option Orientation : Vertical

Correct Marks : 1 Wrong Marks : 0.25

एक गाँव की जनसंख्या प्रतिवर्ष 20% की दर से बढ़ती है। तीन वर्ष पश्चात जनसंख्या में कुल कितने प्रतिशत की वृद्धि होगी?

Options :

1. ✓ 72.8 प्रतिशत

2. ✗ 70 प्रतिशत

3. ✗ 71.4 प्रतिशत

4. ✗ 60 प्रतिशत

Question Number : 47 Question Id : 9662319697 Question Type : MCQ Option Shuffling : Yes Display Question Number : Yes Single Line Question Option : No Option Orientation : Vertical

Correct Marks : 1 Wrong Marks : 0.25

If a number is reduced by 20%, then it becomes 320. By what percent the number should be reduced so that it becomes 375?

Options :

1. ✓ 6.25 percent

2. ✗ 8.33 percent

3. ✗ 12.5 percent

4. ✗ 10 percent

Question Number : 47 Question Id : 9662319697 Question Type : MCQ Option Shuffling : Yes Display Question Number : Yes Single Line Question Option : No Option Orientation : Vertical

Correct Marks : 1 Wrong Marks : 0.25

यदि एक संख्या को 20% से कम किया जाए, तो वह 320 हो जाती है। संख्या को कितने प्रतिशत से कम करना चाहिए ताकि वह 375 हो जाए?

Options :

1. ✓ 6.25 प्रतिशत
2. ✗ 8.33 प्रतिशत
3. ✗ 12.5 प्रतिशत
4. ✗ 10 प्रतिशत

Question Number : 48 Question Id : 9662319698 Question Type : MCQ Option Shuffling : Yes Display Question Number : Yes
Single Line Question Option : No Option Orientation : Vertical

Correct Marks : 1 Wrong Marks : 0.25

In a class, 40% of the students are in section A, 25% of the remaining students are in section B and all the remaining students belongs to section C. If section C has 90 students, then what is the total number of students in all sections together?

Options :

1. ✓ 200
2. ✗ 250
3. ✗ 180
4. ✗ 220

Question Number : 48 Question Id : 9662319698 Question Type : MCQ Option Shuffling : Yes Display Question Number : Yes
Single Line Question Option : No Option Orientation : Vertical

Correct Marks : 1 Wrong Marks : 0.25

एक कक्षा में, 40% छात्र खंड A में है, शेष छात्रों के 25% खंड B में है। यदि खंड C में 90 छात्र हैं, तो सभी खंडों में मिलाकर कुल छात्रों की संख्या क्या है?

Options :

1. ✓ 200
2. ✗ 250
3. ✗ 180
4. ✗ 220

Question Number : 49 Question Id : 9662319699 Question Type : MCQ Option Shuffling : Yes Display Question Number : Yes
Single Line Question Option : No Option Orientation : Vertical

Correct Marks : 1 Wrong Marks : 0.25

A vendor sells an article for Rs. 231. If he had sold it for Rs. 63 less, then he would have incurred a loss of 20%. What is the cost price of article?

Options :

1. ✗ Rs. 240
2. ✓ Rs. 210
3. ✗ Rs. 230
4. ✗ Rs. 250

Question Number : 49 Question Id : 9662319699 Question Type : MCQ Option Shuffling : Yes Display Question Number : Yes
Single Line Question Option : No Option Orientation : Vertical

Correct Marks : 1 Wrong Marks : 0.25

एक विक्रेता एक वस्तु को 231 रुपये में बेचता है। यदि वह उसे 63 रुपये कम में बेचता, तो उसे 20% की हानि होती। वस्तु का क्रय मूल्य क्या है?

Options :

1. ✗ 240 रुपये
2. ✓ 210 रुपये
3. ✗ 230 रुपये
4. ✗ 250 रुपये

Question Number : 50 Question Id : 9662319700 Question Type : MCQ Option Shuffling : Yes Display Question Number : Yes
Single Line Question Option : No Option Orientation : Vertical

Correct Marks : 1 Wrong Marks : 0.25

If $a^3 + b^3 : a^3 - b^3 = 1241 : 217$, then what is $a : b$?

Options :

1. ✓ 9 : 8
2. ✗ 5 : 7
3. ✗ 6 : 5
4. ✗ 8 : 7

Question Number : 50 Question Id : 9662319700 Question Type : MCQ Option Shuffling : Yes Display Question Number : Yes
Single Line Question Option : No Option Orientation : Vertical

Correct Marks : 1 Wrong Marks : 0.25

यदि $a^3 + b^3 : a^3 - b^3 = 1241 : 217$ है, तो $a : b$ का मान क्या है?

Options :

1. ✓ 9 : 8
2. ✗ 5 : 7
3. ✗ 6 : 5
4. ✗ 8 : 7

Question Number : 51 Question Id : 9662319701 Question Type : MCQ Option Shuffling : Yes Display Question Number : Yes
Single Line Question Option : No Option Orientation : Vertical

Correct Marks : 1 Wrong Marks : 0.25

If $a/3 = b/7$ and $2c : 3d = a : b$, then what is $14ac : 3bd$?

Options :

1. ✓ 9 : 7
2. ✗ 5 : 7
3. ✗ 3 : 14
4. ✗ 7 : 3

Question Number : 51 Question Id : 9662319701 Question Type : MCQ Option Shuffling : Yes Display Question Number : Yes
Single Line Question Option : No Option Orientation : Vertical

Correct Marks : 1 Wrong Marks : 0.25

यदि $a/3 = b/7$ तथा $2c : 3d = a : b$ है, तो $14ac : 3bd$ का मान क्या है?

Options :

1. ✓ 9 : 7
2. ✗ 5 : 7
3. ✗ 3 : 14
4. ✗ 7 : 3

Question Number : 52 Question Id : 9662319702 Question Type : MCQ Option Shuffling : Yes Display Question Number : Yes
Single Line Question Option : No Option Orientation : Vertical

Correct Marks : 1 Wrong Marks : 0.25

Three numbers are in the ratio of 7 : 10 : 11. The difference of squares of largest and smallest numbers is 1800. What is the half of the middle number?

Options :

1. ✗ 10
2. ✗ 5
3. ✓ 25

4. ✖ 1

Question Number : 52 Question Id : 9662319702 Question Type : MCQ Option Shuffling : Yes Display Question Number : Yes
Single Line Question Option : No Option Orientation : Vertical

Correct Marks : 1 Wrong Marks : 0.25

तीन संख्याएँ 7 : 10 : 11 के अनुपात में हैं। सबसे बड़ी तथा सबसे छोटी संख्या के वर्ग के बीच का अंतर 1800 है। मध्य संख्या का आधा क्या है?

Options :

1. ✖ 10

2. ✖ 5

3. ✔ 25

4. ✖ 1

Question Number : 53 Question Id : 9662319703 Question Type : MCQ Option Shuffling : Yes Display Question Number : Yes
Single Line Question Option : No Option Orientation : Vertical

Correct Marks : 1 Wrong Marks : 0.25

What will be the simple interest on a sum of Rs. 4000 for 5 years at the rate 20% per annum?

Options :

1. ✖ Rs. 2000

2. ✔ Rs. 4000

3. ✖ Rs. 3000

4. ✖ Rs. 2500

Question Number : 53 Question Id : 9662319703 Question Type : MCQ Option Shuffling : Yes Display Question Number : Yes
Single Line Question Option : No Option Orientation : Vertical

Correct Marks : 1 Wrong Marks : 0.25

एक 4000 रुपये की राशि पर 20% प्रति वर्ष की ब्याज दर से 5 वर्षों का साधारण ब्याज क्या होगा?

Options :

1. ✖ 2000 रुपये

2. ✔ 4000 रुपये

3. ✖ 3000 रुपये

4. ✖ 2500 रुपये

Question Number : 54 Question Id : 9662319704 Question Type : MCQ Option Shuffling : Yes Display Question Number : Yes
Single Line Question Option : No Option Orientation : Vertical

Correct Marks : 1 Wrong Marks : 0.25

A train passes two persons walking in the same direction at speeds of 5 km/hr and 10 km/hr in 3 seconds and 4 seconds respectively. How much time the train will take to cross a pole?

Options :

1. ✔ 12/5 seconds

2. ✖ 13/5 seconds

3. ✖ 2/5 seconds

4. ✖ 11/3 seconds

Question Number : 54 Question Id : 9662319704 Question Type : MCQ Option Shuffling : Yes Display Question Number : Yes
Single Line Question Option : No Option Orientation : Vertical

Correct Marks : 1 Wrong Marks : 0.25

एक रेलगाड़ी समान दिशा में 5 कि.मी. / घंटा तथा 10 कि.मी. / घंटा की गति से चल रहे दो व्यक्तियों को क्रमशः 3 सेकण्ड तथा 4 सेकण्ड में पार करती है। रेलगाड़ी एक खंभे को पार करने में कितना समय लेगी?

Options :

1. ✓ 12/5 सेकण्ड
2. ✗ 13/5 सेकण्ड
3. ✗ 2/5 सेकण्ड
4. ✗ 11/3 सेकण्ड

Question Number : 55 Question Id : 9662319705 Question Type : MCQ Option Shuffling : Yes Display Question Number : Yes
Single Line Question Option : No Option Orientation : Vertical

Correct Marks : 1 Wrong Marks : 0.25

Studying 8 hours a day, Ravi can read 400 pages in 5 days. If he wants to read 600 pages in 5 days, then how many more hours a day he needs to study?

Note: For this question, discrepancy is found in question/answer. So, this question is ignored for all candidates.

Options :

1. 6
2. 4
3. 2
4. 5

Question Number : 55 Question Id : 9662319705 Question Type : MCQ Option Shuffling : Yes Display Question Number : Yes
Single Line Question Option : No Option Orientation : Vertical

Correct Marks : 1 Wrong Marks : 0.25

प्रतिदिन 8 घंटे पढ़ाई करके, रवि 400 पेज 5 दिन में पढ़ सकता है। यदि वह 5 दिन में 600 पेज पढ़ना चाहता है, तो एक दिन में उसे कितने घंटे अधिक पढ़ना चाहिए?

Note: For this question, discrepancy is found in question/answer. So, this question is ignored for all candidates.

Options :

1. 6
2. 4
3. 2
4. 5

Question Number : 56 Question Id : 9662319706 Question Type : MCQ Option Shuffling : Yes Display Question Number : Yes
Single Line Question Option : No Option Orientation : Vertical

Correct Marks : 1 Wrong Marks : 0.25

A and B together can do a work in 15 days. B and C together can do the same in 20 days. If they get an amount of Rs. 1200 to complete the work together and B's share is Rs. 200, then how much amount will A get?

Options :

1. ✗ Rs. 700
2. ✓ Rs. 600
3. ✗ Rs. 500
4. ✗ Rs. 450

Question Number : 56 Question Id : 9662319706 Question Type : MCQ Option Shuffling : Yes Display Question Number : Yes
Single Line Question Option : No Option Orientation : Vertical

Correct Marks : 1 Wrong Marks : 0.25

A तथा B मिलकर एक कार्य को 15 दिन में कर सकते हैं। B तथा C मिलकर समान कार्य को 20 दिन में कर सकते हैं। यदि कार्य मिलकर पूरा करने के लिए उन्हें 1200 रुपये मिलते हैं तथा B का हिस्सा 200 रुपये है, तो A को कितनी राशि मिलेगी?

Options :

1. ✗ 700 रुपये
2. ✓ 600 रुपये

3. ✖ 500 रुपये

4. ✖ 450 रुपये

Question Number : 57 Question Id : 9662319707 Question Type : MCQ Option Shuffling : Yes Display Question Number : Yes
Single Line Question Option : No Option Orientation : Vertical

Correct Marks : 1 Wrong Marks : 0.25

If the diagonal of the face of a cube is $7\sqrt{2}$ cm, then what is the volume of the cube?

Options :

1. ✔ 343 cm^3

2. ✖ $49\sqrt{2} \text{ cm}^3$

3. ✖ $343\sqrt{2} \text{ cm}^3$

4. ✖ 243 cm^3

Question Number : 57 Question Id : 9662319707 Question Type : MCQ Option Shuffling : Yes Display Question Number : Yes
Single Line Question Option : No Option Orientation : Vertical

Correct Marks : 1 Wrong Marks : 0.25

यदि एक घन के फलक का विकर्ण $7\sqrt{2}$ से.मी. है, तो घन का आयतन क्या है?

Options :

1. ✔ 343 से.मी.³

2. ✖ $49\sqrt{2}$ से.मी.³

3. ✖ $343\sqrt{2}$ से.मी.³

4. ✖ 243 से.मी.³

Question Number : 58 Question Id : 9662319708 Question Type : MCQ Option Shuffling : Yes Display Question Number : Yes
Single Line Question Option : No Option Orientation : Vertical

Correct Marks : 1 Wrong Marks : 0.25

Radius of base of a right circular cylinder is 10.5 cm. If the height of cylinder is twice of the radius, then what will be the volume of the cylinder?

Options :

1. ✖ 8315.5 cm^3

2. ✖ 4214.6 cm^3

3. ✘ 5654.5 cm^3

4. ✔ 72776.5 cm^3

Question Number : 58 Question Id : 9662319708 Question Type : MCQ Option Shuffling : Yes Display Question Number : Yes
Single Line Question Option : No Option Orientation : Vertical

Correct Marks : 1 Wrong Marks : 0.25

एक लंबवृत्तीय बेलन के आधार की त्रिज्या 10.5 से.मी. है। यदि बेलन की ऊँचाई, त्रिज्या की दोगुनी है, तो बेलन का आयतन क्या होगा?

Options :

1. ✘ 8315.5 से.मी.³

2. ✘ 4214.6 से.मी.³

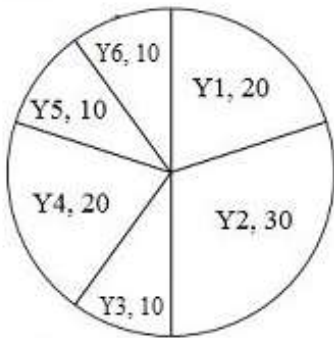
3. ✘ 5654.5 से.मी.³

4. ✔ 72776.5 से.मी.³

Question Number : 59 Question Id : 9662319709 Question Type : MCQ Option Shuffling : Yes Display Question Number : Yes
Single Line Question Option : No Option Orientation : Vertical

Correct Marks : 1 Wrong Marks : 0.25

The pie chart given below shows the number of tools manufactured by a factory in various year as a percentage of total tools manufactured by the factory in all the years.



If the total tools manufactured by a factory is 3600, then what is the number of tools manufactured in the year Y2?

Options :

1. ✘ 960

2. ✔ 1080

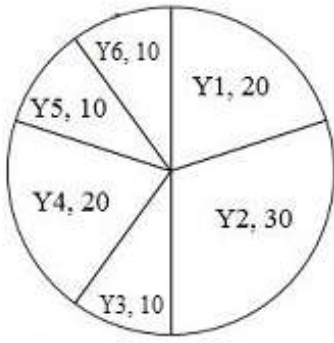
3. ✘ 1200

4. ✘ 1440

Question Number : 59 Question Id : 9662319709 Question Type : MCQ Option Shuffling : Yes Display Question Number : Yes
Single Line Question Option : No Option Orientation : Vertical

Correct Marks : 1 Wrong Marks : 0.25

नीचे दिए गए वृत्त चित्र में एक फैक्ट्री द्वारा विभिन्न वर्षों में बनाए गए उपकरणों को सभी वर्षों में बनाए गए उपकरण के रूप में दर्शाया गया है।



यदि फैक्ट्री द्वारा कुल 3600 उपकरण बनाए गए हैं, तो Y2 वर्ष में बनाए गए उपकरण की संख्या क्या है?

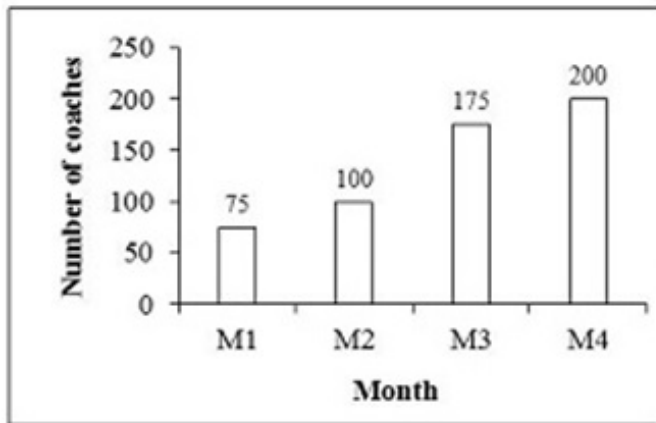
Options :

- ✘ 960
- ✔ 1080
- ✘ 1200
- ✘ 1440

Question Number : 60 Question Id : 9662319710 Question Type : MCQ Option Shuffling : Yes Display Question Number : Yes Single Line Question Option : No Option Orientation : Vertical

Correct Marks : 1 Wrong Marks : 0.25

The bar graph given below shows the number of coaches manufactured by the company in various months.



Number of coaches manufactured in month M2 is how much percentage less the number of coaches manufactured in month M4?

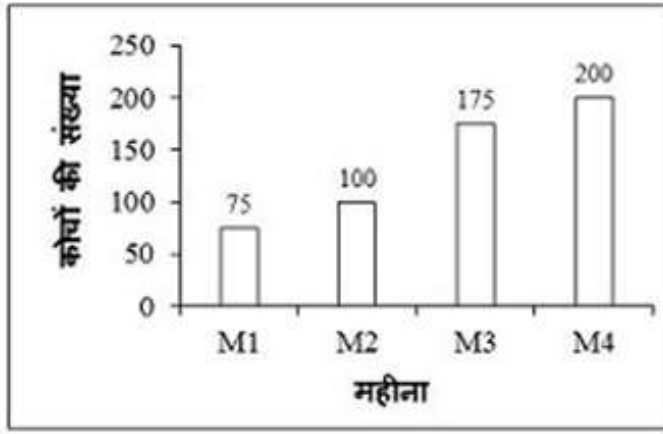
Options :

- ✘ 25 percent
- ✔ 50 percent
- ✘ 62.5 percent
- ✘ 75 percent

Question Number : 60 Question Id : 9662319710 Question Type : MCQ Option Shuffling : Yes Display Question Number : Yes Single Line Question Option : No Option Orientation : Vertical

Correct Marks : 1 Wrong Marks : 0.25

नीचे दिए गए दण्ड चित्र में एक कंपनी द्वारा विभिन्न महीनों में बनाए गए कोच की संख्या को दर्शाया गया है?



M2 महीने में बनाए गए कोच की संख्या M4 महीने में बनाए गए कोच की संख्या से कितनी प्रतिशत कम है?

Options :

1. ✘ 25 प्रतिशत
2. ✔ 50 प्रतिशत
3. ✘ 62.5 प्रतिशत
4. ✘ 75 प्रतिशत

General English

Group Number :	4
Group Id :	966231277
Group Maximum Duration :	0
Group Minimum Duration :	0
Revisit allowed for view? :	No
Revisit allowed for edit? :	No
Break time:	0
Group Marks:	20
Revisit allowed for group Instructions? :	Yes
Maximum Instruction Time:	0
Minimum Instruction Time:	0

General English

Section Id :	966231392
Section Number :	1
Section type :	Online
Mandatory or Optional:	Mandatory
Number of Questions:	16
Number of Questions to be attempted:	16
Section Marks:	20
Display Number Panel:	Yes
Group All Questions:	No

Sub-Section Number:	1
Sub-Section Id:	966231442

Question Shuffling Allowed :

Yes

Question Number : 61 Question Id : 9662319711 Question Type : MCQ Option Shuffling : Yes Display Question Number : Yes
Single Line Question Option : No Option Orientation : Vertical

Correct Marks : 1 Wrong Marks : 0.25

Find the part of the given sentence that has an error in it. If there is no error, choose 'No error'.

We eat (1) / three times (2) / the day (3) /. No error (4)

Options :

1. ✘ 1

2. ✘ 2

3. ✔ 3

4. ✘ 4

Question Number : 61 Question Id : 9662319711 Question Type : MCQ Option Shuffling : Yes Display Question Number : Yes
Single Line Question Option : No Option Orientation : Vertical

Correct Marks : 1 Wrong Marks : 0.25

Find the part of the given sentence that has an error in it. If there is no error, choose 'No error'.

We eat (1) / three times (2) / the day (3) /. No error (4)

Options :

1. ✘ 1

2. ✘ 2

3. ✔ 3

4. ✘ 4

Question Number : 62 Question Id : 9662319712 Question Type : MCQ Option Shuffling : Yes Display Question Number : Yes
Single Line Question Option : No Option Orientation : Vertical

Correct Marks : 1 Wrong Marks : 0.25

Find the part of the given sentence that has an error in it. If there is no error, choose 'No error'.

The beggar (1) / sit down to (2) / the side of the road (3) /. No error (4)

Options :

1. ✘ 1

2. ✔ 2

3. ✘ 3

4. ✘ 4

Question Number : 62 Question Id : 9662319712 Question Type : MCQ Option Shuffling : Yes Display Question Number : Yes
Single Line Question Option : No Option Orientation : Vertical

Correct Marks : 1 Wrong Marks : 0.25

Find the part of the given sentence that has an error in it. If there is no error, choose 'No error'.

The beggar (1) / sit down to (2) / the side of the road (3) /. No error (4)

Options :

1. ✘ 1

2. ✔ 2

3. ✘ 3

4. ✘ 4

Question Number : 63 Question Id : 9662319713 Question Type : MCQ Option Shuffling : Yes Display Question Number : Yes
Single Line Question Option : No Option Orientation : Vertical

Correct Marks : 1 Wrong Marks : 0.25

Improve the bracketed part of the sentence.

The girl cut her hand (to) a knife.

Options :

1. ✓ with
2. ✗ on
3. ✗ along
4. ✗ No improvement

Question Number : 63 Question Id : 9662319713 Question Type : MCQ Option Shuffling : Yes Display Question Number : Yes
Single Line Question Option : No Option Orientation : Vertical

Correct Marks : 1 Wrong Marks : 0.25

Improve the bracketed part of the sentence.

The girl cut her hand (to) a knife.

Options :

1. ✓ with
2. ✗ on
3. ✗ along
4. ✗ No improvement

Question Number : 64 Question Id : 9662319714 Question Type : MCQ Option Shuffling : Yes Display Question Number : Yes
Single Line Question Option : No Option Orientation : Vertical

Correct Marks : 1 Wrong Marks : 0.25

Improve the bracketed part of the sentence.

The firm was fortunate in (secure) the government's support.

Options :

1. ✗ secures
2. ✓ securing
3. ✗ secured
4. ✗ No improvement

Question Number : 64 Question Id : 9662319714 Question Type : MCQ Option Shuffling : Yes Display Question Number : Yes
Single Line Question Option : No Option Orientation : Vertical

Correct Marks : 1 Wrong Marks : 0.25

Improve the bracketed part of the sentence.

The firm was fortunate in (secure) the government's support.

Options :

1. ✗ secures
2. ✓ securing
3. ✗ secured
4. ✗ No improvement

Question Number : 65 Question Id : 9662319715 Question Type : MCQ Option Shuffling : Yes Display Question Number : Yes
Single Line Question Option : No Option Orientation : Vertical

Correct Marks : 1 Wrong Marks : 0.25

A sentence has been given with a blank to be filled with an appropriate word. Choose the correct alternative.

We got into the port before the storm _____ on.

Options :

1. ✘ come
2. ✘ comes
3. ✘ coming
4. ✔ came

Question Number : 65 Question Id : 9662319715 Question Type : MCQ Option Shuffling : Yes Display Question Number : Yes
Single Line Question Option : No Option Orientation : Vertical

Correct Marks : 1 Wrong Marks : 0.25

A sentence has been given with a blank to be filled with an appropriate word. Choose the correct alternative.

We got into the port before the storm _____ on.

Options :

1. ✘ come
2. ✘ comes
3. ✘ coming
4. ✔ came

Question Number : 66 Question Id : 9662319716 Question Type : MCQ Option Shuffling : Yes Display Question Number : Yes
Single Line Question Option : No Option Orientation : Vertical

Correct Marks : 1 Wrong Marks : 0.25

The question below consists of a set of labeled parts. Out of the four options given, select the most logical order of the parts to form a coherent sentence.

P: smell as sweet

Q: A rose

R: name would

S: by any other

Options :

1. ✘ QPRS
2. ✘ QSPR
3. ✔ QSRP
4. ✘ QRPS

Question Number : 66 Question Id : 9662319716 Question Type : MCQ Option Shuffling : Yes Display Question Number : Yes
Single Line Question Option : No Option Orientation : Vertical

Correct Marks : 1 Wrong Marks : 0.25

The question below consists of a set of labeled parts. Out of the four options given, select the most logical order of the parts to form a coherent sentence.

P: smell as sweet

Q: A rose

R: name would

S: by any other

Options :

1. ✘ QPRS
2. ✘ QSPR
3. ✔ QSRP

4. ✘ QRPS

Question Number : 67 Question Id : 9662319717 Question Type : MCQ Option Shuffling : Yes Display Question Number : Yes
Single Line Question Option : No Option Orientation : Vertical

Correct Marks : 1 Wrong Marks : 0.25

Choose the word that is opposite in meaning to the given word.

Plethora

Options :

1. ✘ Deluge
2. ✘ Profusion
3. ✘ Surfeit
4. ✔ Rarity

Question Number : 67 Question Id : 9662319717 Question Type : MCQ Option Shuffling : Yes Display Question Number : Yes
Single Line Question Option : No Option Orientation : Vertical

Correct Marks : 1 Wrong Marks : 0.25

Choose the word that is opposite in meaning to the given word.

Plethora

Options :

1. ✘ Deluge
2. ✘ Profusion
3. ✘ Surfeit
4. ✔ Rarity

Question Number : 68 Question Id : 9662319718 Question Type : MCQ Option Shuffling : Yes Display Question Number : Yes
Single Line Question Option : No Option Orientation : Vertical

Correct Marks : 1 Wrong Marks : 0.25

Choose the word that is opposite in meaning to the given word.

Amiable

Options :

1. ✘ Malicious
2. ✔ Disagreeable
3. ✘ Spiteful
4. ✘ Earthly

Question Number : 68 Question Id : 9662319718 Question Type : MCQ Option Shuffling : Yes Display Question Number : Yes
Single Line Question Option : No Option Orientation : Vertical

Correct Marks : 1 Wrong Marks : 0.25

Choose the word that is opposite in meaning to the given word.

Amiable

Options :

1. ✘ Malicious
2. ✔ Disagreeable
3. ✘ Spiteful
4. ✘ Earthly

Question Number : 69 Question Id : 9662319719 Question Type : MCQ Option Shuffling : Yes Display Question Number : Yes
Single Line Question Option : No Option Orientation : Vertical

Correct Marks : 1 Wrong Marks : 0.25

In the given question, four words are given out of which one word is correctly spelt. Choose the correctly spelt word.

Options :

1. ✘ Antagonesm
2. ✘ Antogonisum
3. ✔ Antagonism
4. ✘ Antagenism

Question Number : 69 Question Id : 9662319719 Question Type : MCQ Option Shuffling : Yes Display Question Number : Yes
Single Line Question Option : No Option Orientation : Vertical

Correct Marks : 1 Wrong Marks : 0.25

In the given question, four words are given out of which one word is correctly spelt. Choose the correctly spelt word.

Options :

1. ✘ Antagonesm
2. ✘ Antogonisum
3. ✔ Antagonism
4. ✘ Antagenism

Question Number : 70 Question Id : 9662319720 Question Type : MCQ Option Shuffling : Yes Display Question Number : Yes
Single Line Question Option : No Option Orientation : Vertical

Correct Marks : 1 Wrong Marks : 0.25

In the given question, four words are given out of which one word is correctly spelt. Choose the correctly spelt word.

Options :

1. ✔ Deceptive
2. ✘ Decatene
3. ✘ Deseptire
4. ✘ Diseptive

Question Number : 70 Question Id : 9662319720 Question Type : MCQ Option Shuffling : Yes Display Question Number : Yes
Single Line Question Option : No Option Orientation : Vertical

Correct Marks : 1 Wrong Marks : 0.25

In the given question, four words are given out of which one word is correctly spelt. Choose the correctly spelt word.

Options :

1. ✔ Deceptive
2. ✘ Decatene
3. ✘ Deseptire
4. ✘ Diseptive

Question Number : 71 Question Id : 9662319721 Question Type : MCQ Option Shuffling : Yes Display Question Number : Yes
Single Line Question Option : No Option Orientation : Vertical

Correct Marks : 1 Wrong Marks : 0.25

In the given question, four words are given out of which one word is correctly spelt. Choose the correctly spelt word.

Options :

1. ✘ Enermous
2. ✔ Enormous
3. ✘ Enoermus
4. ✘ Enoremus

Question Number : 71 Question Id : 9662319721 Question Type : MCQ Option Shuffling : Yes Display Question Number : Yes Single Line Question Option : No Option Orientation : Vertical

Correct Marks : 1 Wrong Marks : 0.25

In the given question, four words are given out of which one word is correctly spelt. Choose the correctly spelt word.

Options :

1. ✘ Enermous
2. ✔ Enormous
3. ✘ Enoermus
4. ✘ Enoremus

Question Number : 72 Question Id : 9662319722 Question Type : MCQ Option Shuffling : Yes Display Question Number : Yes Single Line Question Option : No Option Orientation : Vertical

Correct Marks : 1 Wrong Marks : 0.25

In the following question, out of the given four alternatives, select the alternative which best expresses the meaning of the Idiom / Phrase.

Dog tired

Options :

1. ✘ Fear/scare
2. ✘ To live within one's means
3. ✔ Exhausted
4. ✘ From a bad to a worse

Question Number : 72 Question Id : 9662319722 Question Type : MCQ Option Shuffling : Yes Display Question Number : Yes Single Line Question Option : No Option Orientation : Vertical

Correct Marks : 1 Wrong Marks : 0.25

In the following question, out of the given four alternatives, select the alternative which best expresses the meaning of the Idiom / Phrase.

Dog tired

Options :

1. ✘ Fear/scare
2. ✘ To live within one's means
3. ✔ Exhausted
4. ✘ From a bad to a worse

Question Number : 73 Question Id : 9662319723 Question Type : MCQ Option Shuffling : Yes Display Question Number : Yes Single Line Question Option : No Option Orientation : Vertical

Correct Marks : 1 Wrong Marks : 0.25

Fill in the blank with the best suitable option.

He had _____ by saying that he would win the elections hands down.

Options :

1. ✘ All ears

2. ✘ A fish out of water
3. ✘ Dressed smartly
4. ✔ To eat a crow

Question Number : 73 Question Id : 9662319723 Question Type : MCQ Option Shuffling : Yes Display Question Number : Yes
Single Line Question Option : No Option Orientation : Vertical

Correct Marks : 1 Wrong Marks : 0.25

Fill in the blank with the best suitable option.

He had _____ by saying that he would win the elections hands down.

Options :

1. ✘ All ears
2. ✘ A fish out of water
3. ✘ Dressed smartly
4. ✔ To eat a crow

Question Number : 74 Question Id : 9662319724 Question Type : MCQ Option Shuffling : Yes Display Question Number : Yes
Single Line Question Option : No Option Orientation : Vertical

Correct Marks : 1 Wrong Marks : 0.25

Choose the word that can substitute the given sentence.

To free completely from blame.

Options :

1. ✘ Glossary
2. ✔ Exonerate
3. ✘ Ecology
4. ✘ Cellar

Question Number : 74 Question Id : 9662319724 Question Type : MCQ Option Shuffling : Yes Display Question Number : Yes
Single Line Question Option : No Option Orientation : Vertical

Correct Marks : 1 Wrong Marks : 0.25

Choose the word that can substitute the given sentence.

To free completely from blame.

Options :

1. ✘ Glossary
2. ✔ Exonerate
3. ✘ Ecology
4. ✘ Cellar

Question Number : 75 Question Id : 9662319725 Question Type : MCQ Option Shuffling : Yes Display Question Number : Yes
Single Line Question Option : No Option Orientation : Vertical

Correct Marks : 1 Wrong Marks : 0.25

Choose the word that can substitute the given sentence.

A raised place on which offerings to God are made.

Options :

1. ✘ Colony
2. ✘ Inflammable
3. ✔ Altar

4. ✖ Salvo

Question Number : 75 Question Id : 9662319725 Question Type : MCQ Option Shuffling : Yes Display Question Number : Yes
Single Line Question Option : No Option Orientation : Vertical

Correct Marks : 1 Wrong Marks : 0.25

Choose the word that can substitute the given sentence.

A raised place on which offerings to God are made.

Options :

1. ✖ Colony
2. ✖ Inflammable
3. ✔ Altar
4. ✖ Salvo

Sub-Section Number:	2
Sub-Section Id:	966231443
Question Shuffling Allowed :	Yes

Question Id : 9662319726 Question Type : COMPREHENSION Sub Question Shuffling Allowed : Yes Group Comprehension
Questions : No

Question Numbers : (76 to 80)

Question Label : Comprehension

Read the following information carefully and answer the given questions:

Malala Yousafzai is a Pakistani activist for female education and the youngest Nobel Prize laureate. She is known for human rights advocacy, especially the education of women and children in her native Swat Valley in Khyber Pakhtunkhwa, northwest Pakistan, where the local Taliban had at times banned girls from attending school. Her advocacy has grown into an international movement, and according to former Pakistani Prime Minister Shahid Khaqan Abbasi, she has become "the most prominent citizen" of the country.

Yousafzai was born to a Pashtun family in Mingora, Khyber Pakhtunkhwa, Pakistan. Her family came to run a chain of schools in the region. Considering Muhammad Ali Jinnah and Benazir Bhutto as her role models, she was particularly inspired by her father's thoughts and humanitarian work. In early 2009, when she was 11-12, she wrote a blog under a pseudonym for the BBC Urdu detailing her life during the Taliban occupation of Swat. The following summer, journalist Adam B. Ellick made a New York Times documentary about her life as the Pakistani military intervened in the region. She rose in prominence, giving interviews in print and on television, and she was nominated for the International Children's Peace Prize by activist Desmond Tutu.

On 9 October 2012, while on a bus in the Swat District, after taking an exam, Yousafzai and two other girls were shot by a Taliban gunman in an assassination attempt in retaliation for her activism; the gunman fled the scene. Yousafzai was hit in the head with a bullet and remained unconscious and in critical condition at the Rawalpindi Institute of Cardiology, but her condition later improved enough as she was transferred to the Queen Elizabeth Hospital in Birmingham, UK.

Sub questions

Question Number : 76 Question Id : 9662319727 Question Type : MCQ Option Shuffling : Yes Display Question Number : Yes
Single Line Question Option : No Option Orientation : Vertical

Correct Marks : 1 Wrong Marks : 0.25

When did Yousafzai's condition begin to improve after being shot?

Options :

1. ✖ While on a bus in the Swat District
2. ✖ When the gunman fled the scene
3. ✔ When she was transferred to the Queen Elizabeth Hospital
4. ✖ When she was at Rawalpindi Institute of Cardiology

Question Number : 77 Question Id : 9662319728 Question Type : MCQ Option Shuffling : Yes Display Question Number : Yes
Single Line Question Option : No Option Orientation : Vertical

Correct Marks : 1 Wrong Marks : 0.25

Which of the following means opposite in meaning to advocacy?

Options :

1. ✓ Opposition
2. ✗ Defense
3. ✗ Backing
4. ✗ Urging

Question Number : 78 Question Id : 9662319729 Question Type : MCQ Option Shuffling : Yes Display Question Number : Yes
Single Line Question Option : No Option Orientation : Vertical

Correct Marks : 1 Wrong Marks : 0.25

By whom was Yousafzai mainly inspired?

Options :

1. ✗ Mother
2. ✗ Benazir Bhutto
3. ✗ Muhammad Ali Jinnah
4. ✓ Father's thought

Question Number : 79 Question Id : 9662319730 Question Type : MCQ Option Shuffling : Yes Display Question Number : Yes
Single Line Question Option : No Option Orientation : Vertical

Correct Marks : 1 Wrong Marks : 0.25

Malala Yousafzai is the youngest laureate for which prize?

Options :

1. ✗ The Booker Prize
2. ✓ The Nobel Prize
3. ✗ The Academy Awards
4. ✗ The BAFTA Awards

Question Number : 80 Question Id : 9662319731 Question Type : MCQ Option Shuffling : Yes Display Question Number : Yes
Single Line Question Option : No Option Orientation : Vertical

Correct Marks : 1 Wrong Marks : 0.25

Choose a word from the passage that means 'false name'

Options :

1. ✗ Nominated
2. ✗ Assassination
3. ✓ Pseudonym
4. ✗ Intervened

Question Id : 9662319726 Question Type : COMPREHENSION Sub Question Shuffling Allowed : Yes Group Comprehension
Questions : No

Question Numbers : (76 to 80)

Question Label : Comprehension

Read the following information carefully and answer the given questions:

Malala Yousafzai is a Pakistani activist for female education and the youngest Nobel Prize laureate. She is known for human rights advocacy, especially the education of women and children in her native Swat Valley in Khyber Pakhtunkhwa, northwest Pakistan, where the local Taliban had at times banned girls from attending school. Her advocacy has grown into an international movement, and according to former Pakistani Prime Minister Shahid Khaqan Abbasi, she has become "the most prominent citizen" of the country.

Yousafzai was born to a Pashtun family in Mingora, Khyber Pakhtunkhwa, Pakistan. Her family came to run a chain of schools in the region. Considering Muhammad Ali Jinnah and Benazir Bhutto as her role models, she was particularly inspired by her father's thoughts and humanitarian work. In early 2009, when she was 11-12, she wrote a blog under a pseudonym for the BBC Urdu detailing her life during the Taliban occupation of Swat. The following summer, journalist Adam B. Ellick made a New York Times documentary about her life as the Pakistani military intervened in the region. She rose in prominence, giving interviews in print and on television, and she was nominated for the International Children's Peace Prize by activist Desmond Tutu. On 9 October 2012, while on a bus in the Swat District, after taking an exam, Yousafzai and two other girls were shot by a Taliban gunman in an assassination attempt in retaliation for her activism; the gunman fled the scene. Yousafzai was hit in the head with a bullet and remained unconscious and in critical condition at the Rawalpindi Institute of Cardiology, but her condition later improved enough as she was transferred to the Queen Elizabeth Hospital in Birmingham, UK.

Sub questions

Question Number : 76 Question Id : 9662319727 Question Type : MCQ Option Shuffling : Yes Display Question Number : Yes Single Line Question Option : No Option Orientation : Vertical

Correct Marks : 1 Wrong Marks : 0.25

When did Yousafzai's condition begin to improve after being shot?

Options :

- ✘ While on a bus in the Swat District
- ✘ When the gunman fled the scene
- ✔ When she was transferred to the Queen Elizabeth Hospital
- ✘ When she was at Rawalpindi Institute of Cardiology

Question Number : 77 Question Id : 9662319728 Question Type : MCQ Option Shuffling : Yes Display Question Number : Yes Single Line Question Option : No Option Orientation : Vertical

Correct Marks : 1 Wrong Marks : 0.25

Which of the following means opposite in meaning to advocacy?

Options :

- ✔ Opposition
- ✘ Defense
- ✘ Backing
- ✘ Urging

Question Number : 78 Question Id : 9662319729 Question Type : MCQ Option Shuffling : Yes Display Question Number : Yes Single Line Question Option : No Option Orientation : Vertical

Correct Marks : 1 Wrong Marks : 0.25

By whom was Yousafzai mainly inspired?

Options :

- ✘ Mother
- ✘ Benazir Bhutto
- ✘ Muhammad Ali Jinnah
- ✔ Father's thought

Question Number : 79 Question Id : 9662319730 Question Type : MCQ Option Shuffling : Yes Display Question Number : Yes Single Line Question Option : No Option Orientation : Vertical

Correct Marks : 1 Wrong Marks : 0.25

Malala Yousafzai is the youngest laureate for which prize?

Options :

1. ✘ The Booker Prize
2. ✔ The Nobel Prize
3. ✘ The Academy Awards
4. ✘ The BAFTA Awards

Question Number : 80 Question Id : 9662319731 Question Type : MCQ Option Shuffling : Yes Display Question Number : Yes
Single Line Question Option : No Option Orientation : Vertical

Correct Marks : 1 Wrong Marks : 0.25

Choose a word from the passage that means 'false name'

Options :

1. ✘ Nominated
2. ✘ Assassination
3. ✔ Pseudonym
4. ✘ Intervened

General Hindi

Group Number :	5
Group Id :	966231278
Group Maximum Duration :	0
Group Minimum Duration :	0
Revisit allowed for view? :	No
Revisit allowed for edit? :	No
Break time:	0
Group Marks:	20
Revisit allowed for group Instructions? :	Yes
Maximum Instruction Time:	0
Minimum Instruction Time:	0

General Hindi

Section Id :	966231393
Section Number :	1
Section type :	Online
Mandatory or Optional:	Mandatory
Number of Questions:	16
Number of Questions to be attempted:	16
Section Marks:	20
Display Number Panel:	Yes
Group All Questions:	No

Sub-Section Number:	1
Sub-Section Id:	966231444
Question Shuffling Allowed :	Yes

Question Number : 81 Question Id : 9662319732 Question Type : MCQ Option Shuffling : Yes Display Question Number : Yes
Single Line Question Option : No Option Orientation : Vertical

Correct Marks : 1 Wrong Marks : 0.25

दिए शब्द के रूप की पहचान कीजिए।

गजट

Options :

1. ✘ तत्सम
2. ✘ तद्धव
3. ✘ देशज
4. ✔ विदेशज

Question Number : 81 Question Id : 9662319732 Question Type : MCQ Option Shuffling : Yes Display Question Number : Yes
Single Line Question Option : No Option Orientation : Vertical

Correct Marks : 1 Wrong Marks : 0.25

दिए शब्द के रूप की पहचान कीजिए।

गजट

Options :

1. ✘ तत्सम
2. ✘ तद्धव
3. ✘ देशज
4. ✔ विदेशज

Question Number : 82 Question Id : 9662319733 Question Type : MCQ Option Shuffling : Yes Display Question Number : Yes
Single Line Question Option : No Option Orientation : Vertical

Correct Marks : 1 Wrong Marks : 0.25

दिए वाक्य के रेखांकित भाग के संज्ञा के भेद की पहचान कीजिए।

वह दूध लेकर आया।

Options :

1. ✘ व्यक्तिवाचक
2. ✘ भाववाचक
3. ✔ द्रव्यवाचक
4. ✘ जातिवाचक

Question Number : 82 Question Id : 9662319733 Question Type : MCQ Option Shuffling : Yes Display Question Number : Yes
Single Line Question Option : No Option Orientation : Vertical

Correct Marks : 1 Wrong Marks : 0.25

दिए वाक्य के रेखांकित भाग के संज्ञा के भेद की पहचान कीजिए।

वह दूध लेकर आया।

Options :

1. ✘ व्यक्तिवाचक
2. ✘ भाववाचक
3. ✔ द्रव्यवाचक
4. ✘ जातिवाचक

Question Number : 83 Question Id : 9662319734 Question Type : MCQ Option Shuffling : Yes Display Question Number : Yes
Single Line Question Option : No Option Orientation : Vertical

Correct Marks : 1 Wrong Marks : 0.25

दिए गए शब्दों की सही संधि ज्ञात कीजिए।

पुनः + विवाह

Options :

1. ✘ पुनीविवाह
2. ✔ पुनर्विवाह
3. ✘ पुनरविवार
4. ✘ पुनीर्विवाह

Question Number : 83 Question Id : 9662319734 Question Type : MCQ Option Shuffling : Yes Display Question Number : Yes
Single Line Question Option : No Option Orientation : Vertical

Correct Marks : 1 Wrong Marks : 0.25

दिए गए शब्दों की सही संधि ज्ञात कीजिए।

पुनः + विवाह

Options :

1. ✘ पुनीविवाह
2. ✔ पुनर्विवाह
3. ✘ पुनरविवार
4. ✘ पुनीर्विवाह

Question Number : 84 Question Id : 9662319735 Question Type : MCQ Option Shuffling : Yes Display Question Number : Yes
Single Line Question Option : No Option Orientation : Vertical

Correct Marks : 1 Wrong Marks : 0.25

दिए गए वाक्य में रेखांकित भाग किस प्रकार का सर्वनाम है ज्ञात कीजिए।

तुम अपनी पुस्तक स्वयं पढ़ो।

Options :

1. ✔ निजवाचक
2. ✘ पुरुषवाचक
3. ✘ संबंधवाचक
4. ✘ प्रश्नवाचक

Question Number : 84 Question Id : 9662319735 Question Type : MCQ Option Shuffling : Yes Display Question Number : Yes
Single Line Question Option : No Option Orientation : Vertical

Correct Marks : 1 Wrong Marks : 0.25

दिए गए वाक्य में रेखांकित भाग किस प्रकार का सर्वनाम है ज्ञात कीजिए।

तुम अपनी पुस्तक स्वयं पढ़ो।

Options :

1. ✔ निजवाचक
2. ✘ पुरुषवाचक
3. ✘ संबंधवाचक
4. ✘ प्रश्नवाचक

Question Number : 85 Question Id : 9662319736 Question Type : MCQ Option Shuffling : Yes Display Question Number : Yes
Single Line Question Option : No Option Orientation : Vertical

Correct Marks : 1 Wrong Marks : 0.25

दिए गए वाक्य में रिक्त स्थान की पूर्ति कीजिए।

वायुयान के उतार-चढ़ाव से यात्री घबरा गए पर चालक ने उन्हें _____ किया।

Options :

1. ✘ निरस्त
2. ✔ आश्चर्य
3. ✘ सन्तुष्ट
4. ✘ विश्वस्त

Question Number : 85 Question Id : 9662319736 Question Type : MCQ Option Shuffling : Yes Display Question Number : Yes
Single Line Question Option : No Option Orientation : Vertical

Correct Marks : 1 Wrong Marks : 0.25

दिए गए वाक्य में रिक्त स्थान की पूर्ति कीजिए।

वायुयान के उतार-चढ़ाव से यात्री घबरा गए पर चालक ने उन्हें _____ किया।

Options :

1. ✘ निरस्त
2. ✔ आश्चर्य
3. ✘ सन्तुष्ट
4. ✘ विश्वस्त

Question Number : 86 Question Id : 9662319737 Question Type : MCQ Option Shuffling : Yes Display Question Number : Yes
Single Line Question Option : No Option Orientation : Vertical

Correct Marks : 1 Wrong Marks : 0.25

दिए गए शब्द का पर्यायवाची ज्ञात कीजिए।

कल्पवृक्ष

Options :

1. ✔ पारिजात
2. ✘ सम्पत्ति
3. ✘ चीर
4. ✘ महसूल

Question Number : 86 Question Id : 9662319737 Question Type : MCQ Option Shuffling : Yes Display Question Number : Yes
Single Line Question Option : No Option Orientation : Vertical

Correct Marks : 1 Wrong Marks : 0.25

दिए गए शब्द का पर्यायवाची ज्ञात कीजिए।

कल्पवृक्ष

Options :

1. ✔ पारिजात
2. ✘ सम्पत्ति
3. ✘ चीर
4. ✘ महसूल

Question Number : 87 Question Id : 9662319738 Question Type : MCQ Option Shuffling : Yes Display Question Number : Yes
Single Line Question Option : No Option Orientation : Vertical

Correct Marks : 1 Wrong Marks : 0.25

दिए गए शब्द का विलोम शब्द ज्ञात कीजिए।

करुण

Options :

1. ✘ क्रोध

2. ✘ घणा
3. ✘ अभिश्राप
4. ✔ दारुण

Question Number : 87 Question Id : 9662319738 Question Type : MCQ Option Shuffling : Yes Display Question Number : Yes
Single Line Question Option : No Option Orientation : Vertical

Correct Marks : 1 Wrong Marks : 0.25

दिए गए शब्द का विलोम शब्द ज्ञात कीजिए।

करुण

Options :

1. ✘ क्रोध
2. ✘ घणा
3. ✘ अभिश्राप
4. ✔ दारुण

Question Number : 88 Question Id : 9662319739 Question Type : MCQ Option Shuffling : Yes Display Question Number : Yes
Single Line Question Option : No Option Orientation : Vertical

Correct Marks : 1 Wrong Marks : 0.25

दिए गए वाक्य के लिए एक उचित शब्द का चयन कीजिए।

जिसमें सहन शक्ति हो।

Options :

1. ✘ कुशाग्र
2. ✔ सहिष्णु
3. ✘ असहनीय
4. ✘ असिय

Question Number : 88 Question Id : 9662319739 Question Type : MCQ Option Shuffling : Yes Display Question Number : Yes
Single Line Question Option : No Option Orientation : Vertical

Correct Marks : 1 Wrong Marks : 0.25

दिए गए वाक्य के लिए एक उचित शब्द का चयन कीजिए।

जिसमें सहन शक्ति हो।

Options :

1. ✘ कुशाग्र
2. ✔ सहिष्णु
3. ✘ असहनीय
4. ✘ असिय

Question Number : 89 Question Id : 9662319740 Question Type : MCQ Option Shuffling : Yes Display Question Number : Yes
Single Line Question Option : No Option Orientation : Vertical

Correct Marks : 1 Wrong Marks : 0.25

दिए गए वाक्य के वाच्य की पहचान कीजिए।

उससे अब अकेले नहीं रखा जाता।

Options :

1. ✘ कर्तृवाच्य
2. ✘ कर्मवाच्य
3. ✔ भाववाच्य

4. ✘ उभयवाच्य

Question Number : 89 Question Id : 9662319740 Question Type : MCQ Option Shuffling : Yes Display Question Number : Yes
Single Line Question Option : No Option Orientation : Vertical

Correct Marks : 1 Wrong Marks : 0.25

दिए गए वाक्य के वाच्य की पहचान कीजिए।

उससे अब अकेले नहीं रखा जाता।

Options :

1. ✘ कर्तृवाच्य
2. ✘ कर्मवाच्य
3. ✔ भाववाच्य
4. ✘ उभयवाच्य

Question Number : 90 Question Id : 9662319741 Question Type : MCQ Option Shuffling : Yes Display Question Number : Yes
Single Line Question Option : No Option Orientation : Vertical

Correct Marks : 1 Wrong Marks : 0.25

दिए गए वाक्य के कारक की पहचान कीजिए।

माँ ने बाज़ार से कपड़ा खरीदा।

Options :

1. ✘ कर्ता कारक
2. ✔ कर्म कारक
3. ✘ करण कारक
4. ✘ संप्रदान कारक

Question Number : 90 Question Id : 9662319741 Question Type : MCQ Option Shuffling : Yes Display Question Number : Yes
Single Line Question Option : No Option Orientation : Vertical

Correct Marks : 1 Wrong Marks : 0.25

दिए गए वाक्य के कारक की पहचान कीजिए।

माँ ने बाज़ार से कपड़ा खरीदा।

Options :

1. ✘ कर्ता कारक
2. ✔ कर्म कारक
3. ✘ करण कारक
4. ✘ संप्रदान कारक

Question Number : 91 Question Id : 9662319742 Question Type : MCQ Option Shuffling : Yes Display Question Number : Yes
Single Line Question Option : No Option Orientation : Vertical

Correct Marks : 1 Wrong Marks : 0.25

दिए शब्द का बहुवचन ज्ञात कीजिए।

पक्षी

Options :

1. ✘ पक्षीवर्ग
2. ✘ पक्षीगण
3. ✘ पक्षीपजन
4. ✔ पक्षीवृंद

Question Number : 91 Question Id : 9662319742 Question Type : MCQ Option Shuffling : Yes Display Question Number : Yes
Single Line Question Option : No Option Orientation : Vertical

Correct Marks : 1 Wrong Marks : 0.25

दिए शब्द का बहुवचन ज्ञात कीजिए।

पक्षी

Options :

1. ✘ पक्षीवर्ग
2. ✘ पक्षीगण
3. ✘ पक्षीपजन
4. ✔ पक्षीवृन्द

Question Number : 92 Question Id : 9662319743 Question Type : MCQ Option Shuffling : Yes Display Question Number : Yes
Single Line Question Option : No Option Orientation : Vertical

Correct Marks : 1 Wrong Marks : 0.25

तुम, तुमको, तुझे, तू आदि शब्दों का प्रयोग कौन से पुरुष में होता है?

Options :

1. ✘ उत्तम पुरुष
2. ✔ मध्यम पुरुष
3. ✘ अन्य पुरुष
4. ✘ महान पुरुष

Question Number : 92 Question Id : 9662319743 Question Type : MCQ Option Shuffling : Yes Display Question Number : Yes
Single Line Question Option : No Option Orientation : Vertical

Correct Marks : 1 Wrong Marks : 0.25

तुम, तुमको, तुझे, तू आदि शब्दों का प्रयोग कौन से पुरुष में होता है?

Options :

1. ✘ उत्तम पुरुष
2. ✔ मध्यम पुरुष
3. ✘ अन्य पुरुष
4. ✘ महान पुरुष

Question Number : 93 Question Id : 9662319744 Question Type : MCQ Option Shuffling : Yes Display Question Number : Yes
Single Line Question Option : No Option Orientation : Vertical

Correct Marks : 1 Wrong Marks : 0.25

निम्नलिखित प्रश्न में, दिए गए चार विकल्पों में से, उस विकल्प का चयन करें जो दिए गए मुहावरे के अर्थ को सर्वश्रेष्ठ रूप से व्यक्त करता है।

रंग में भंग होना।

Options :

1. ✘ संदेह की बात होना।
2. ✔ आनंद में बाधा डालना।
3. ✘ सपने देखने रहना।
4. ✘ रंग के साथ भांग पीना।

Question Number : 93 Question Id : 9662319744 Question Type : MCQ Option Shuffling : Yes Display Question Number : Yes
Single Line Question Option : No Option Orientation : Vertical

Correct Marks : 1 Wrong Marks : 0.25

निम्नलिखित प्रश्न में, दिए गए चार विकल्पों में से, उस विकल्प का चयन करें जो दिए गए मुहावरे के अर्थ को सर्वश्रेष्ठ रूप से व्यक्त करता है।

रंग में भंग होना।

Options :

1. ✘ संदेह की बात होना
2. ✔ आनंद में बाधा डालना
3. ✘ सपने देखने रहना
4. ✘ रंग के साथ भांग पीना

Question Number : 94 Question Id : 9662319745 Question Type : MCQ Option Shuffling : Yes Display Question Number : Yes
Single Line Question Option : No Option Orientation : Vertical

Correct Marks : 1 Wrong Marks : 0.25

दिए गए वाक्य की सही लोकोक्ति को ज्ञात कीजिए

जैसा स्वामी वैसा सेवक

Options :

1. ✘ चोर चोर मौसरे भाई
2. ✘ अपनी-अपनी उफली अपनी-अपनी राग
3. ✘ दोनों हाथों में लड्डू
4. ✔ यथा राजा तथा प्रजा

Question Number : 94 Question Id : 9662319745 Question Type : MCQ Option Shuffling : Yes Display Question Number : Yes
Single Line Question Option : No Option Orientation : Vertical

Correct Marks : 1 Wrong Marks : 0.25

दिए गए वाक्य की सही लोकोक्ति को ज्ञात कीजिए

जैसा स्वामी वैसा सेवक

Options :

1. ✘ चोर मौसरे भाई
2. ✘ अपनी-अपनी उफली अपनी-अपनी राग
3. ✘ दोनों हाथों में लड्डू
4. ✔ यथा राजा तथा प्रजा

Question Number : 95 Question Id : 9662319746 Question Type : MCQ Option Shuffling : Yes Display Question Number : Yes
Single Line Question Option : No Option Orientation : Vertical

Correct Marks : 1 Wrong Marks : 0.25

दिए गए वाक्य के लिए सही क्रम में विराम चिह्न चुनिए

अनके तीर्थ स्थान जैसे हरिद्वार ऋषिकेश काशी प्रयाग आदि है

Options :

1. ✘ | , , ,
2. ✘ ! , , ,
3. ✔ , , , |
4. ✘ , , | ,

Question Number : 95 Question Id : 9662319746 Question Type : MCQ Option Shuffling : Yes Display Question Number : Yes
Single Line Question Option : No Option Orientation : Vertical

Correct Marks : 1 Wrong Marks : 0.25

दिए गए वाक्य के लिए सही क्रम में विराम चिह्न चुनिए

अनके तीर्थ स्थान जैसे हरिद्वार ऋषिकेश काशी प्रयाग आदि है

Options :

1. ✘ | , , ,
2. ✘ ! , , ,

3. ✓ , , , , |

4. ✗ , , , , |

Sub-Section Number: 2
Sub-Section Id: 966231445
Question Shuffling Allowed : Yes

Question Id : 9662319747 Question Type : COMPREHENSION Sub Question Shuffling Allowed : Yes Group Comprehension Questions : No

Question Numbers : (96 to 100)

Question Label : Comprehension

नीचे दिए गए गद्यांश को ध्यानपूर्वक पढ़ें तथा प्रत्येक प्रश्न में चार विकल्पों में से सही विकल्प चुनें:

पुस्तकालय वे स्थान हैं जहाँ पुस्तकें वर्गीकृत करके क्रम में रखी जाती हैं। कुछ पुस्तकालय विद्यार्थियों द्वारा अध्यापकों के लाभ के लिए होते हैं। निजी पुस्तकालय व्यक्ति विशेष अपनी रुचि के अनुसार निर्मित करते हैं। कुछ सरकारी पुस्तकालय भी होते हैं जिन्हें सरकार द्वारा चलाया जाता है। कुछ समाजसेवी संस्थाएँ भी अपने पुस्तकालय स्थापित करती हैं। कुछ भी हो सब का उद्देश्य प्रायः एक ही होता है पुस्तकों का संगठन तथा लोगों में ज्ञान का प्रसार करना। लोगों की सुविधा को ध्यान में रखते हुए चलते-फिरते पुस्तकालय भी मौजूद हैं। पुस्तकालय से लाभ ही लाभ है अध्यापक इतना भी ज्ञान दे किंतु प्रतिभाशाली छात्रों की ज्ञान की पिपासा की शांति तो ढेर सारी पुस्तकों को पढ़ने से ही होती है और इसका एकमात्र समाधान है पुस्तकालय व्यक्ति हर प्रकार के पुस्तक खरीद नहीं सकता और जो पुस्तकें दुर्लभ हैं उन्हें पाने के लिए तो पुस्तकालय की शरण लेनी ही पड़ती है। हमारे यहाँ जितने पुस्तकालय होने चाहिए उतने ही नहीं शहरों में तो पुस्तकालय हैं पर गाँव में इनका नितांत अभाव है। इसके महत्व को ध्यान में रखते हुए इस दिशा में कदम उठाए जाने चाहिए कि गाँव में भी पुस्तकालय बनाए जाएं।

Sub questions

Question Number : 96 Question Id : 9662319748 Question Type : MCQ Option Shuffling : Yes Display Question Number : Yes Single Line Question Option : No Option Orientation : Vertical

Correct Marks : 1 Wrong Marks : 0.25

पुस्तकालय कैसा स्थान है?

Options :

1. ✗ जहाँ पुस्तकें खरीदी जाती हैं।
2. ✗ जहाँ पुस्तकें फेंकी जाती हैं।
3. ✓ जहाँ पुस्तकें वर्गीकृत करके क्रम में रखी जाती हैं।
4. ✗ जहाँ पुस्तकें बेची जाती हैं।

Question Number : 97 Question Id : 9662319749 Question Type : MCQ Option Shuffling : Yes Display Question Number : Yes Single Line Question Option : No Option Orientation : Vertical

Correct Marks : 1 Wrong Marks : 0.25

पुस्तकालय कितने प्रकार के होते हैं?

Options :

1. ✗ दो
2. ✓ चार
3. ✗ बीस
4. ✗ केवल एक

Question Number : 98 Question Id : 9662319750 Question Type : MCQ Option Shuffling : Yes Display Question Number : Yes Single Line Question Option : No Option Orientation : Vertical

Correct Marks : 1 Wrong Marks : 0.25

उर्युक्त गद्यांश का शीर्षक क्या है?

Options :

1. ✓ पुस्तकालय
2. ✗ पुस्तकों की दुकान

3. ✖ निजी पुस्तकालय
4. ✖ सरकारी पुस्तकालय

Question Number : 99 Question Id : 9662319751 Question Type : MCQ Option Shuffling : Yes Display Question Number : Yes
Single Line Question Option : No Option Orientation : Vertical

Correct Marks : 1 Wrong Marks : 0.25

पुस्तकालय कहाँ अधिक होने चाहिए?

Options :

1. ✖ शहरों में
2. ✖ हर घर में
3. ✔ गाँवों में
4. ✖ जंगलों में

Question Number : 100 Question Id : 9662319752 Question Type : MCQ Option Shuffling : Yes Display Question Number : Yes
Single Line Question Option : No Option Orientation : Vertical

Correct Marks : 1 Wrong Marks : 0.25

प्रतिभाशाली छात्रों की ज्ञान की इच्छा की शांति कब मिलती है?

Options :

1. ✔ पुस्तकें पढ़ कर
2. ✖ पुस्तकालय खोलकर
3. ✖ परीक्षा में पास होकर
4. ✖ टी.टी. देख कर

Question Id : 9662319747 Question Type : COMPREHENSION Sub Question Shuffling Allowed : Yes Group Comprehension
Questions : No

Question Numbers : (96 to 100)

Question Label : Comprehension

नीचे दिए गए गद्यांश को ध्यानपूर्वक पढ़ें तथा प्रत्येक प्रश्न में चार विकल्पों में से सही विकल्प चुने:

पुस्तकालय वे स्थान हैं जहाँ पुस्तकें वर्गीकृत कर के क्रम में रखी जाती हैं। कुछ पुस्तकालय विद्यार्थियों द्वारा अध्यापकों के लाभ के लिए होते हैं। निजी पुस्तकालय व्यक्ति विशेष अपनी रुचि के अनुसार निर्मित करते हैं। कुछ सरकारी पुस्तकालय भी होते हैं जिन्हें सरकार द्वारा चलाया जाता है। कुछ समाजसेवी संस्थाएँ भी अपने पुस्तकालय स्थापित करती हैं। कुछ भी हो सब का उद्देश्य प्रायः एक ही होता है पुस्तकों का संगठन तथा लोगों में ज्ञान का प्रसार करना। लोगों की सुविधा को ध्यान में रखते हुए चलते-फिरते पुस्तकालय भी मौजूद हैं। पुस्तकालय से लाभ ही लाभ है अध्यापक इतना भी ज्ञान दे किंतु प्रतिभाशाली छात्रों की ज्ञान की पिपासा की शांति तो देर सारी पुस्तकों को पढ़ने से ही होती है और इसका एकमात्र समाधान है पुस्तकालय व्यक्ति हर प्रकार के पुस्तक खरीद नहीं सकता और जो पुस्तकें दुर्लभ हैं उन्हें पाने के लिए तो पुस्तकालय की शरण लेनी ही पड़ती है। हमारे यहाँ जितने पुस्तकालय होने चाहिए उतने ही नहीं शहरों में तो पुस्तकालय हैं पर गाँव में इनका नितांत अभाव है। इसके महत्व को ध्यान में रखते हुए इस दिशा में कदम उठाए जाने चाहिए कि गाँव में भी पुस्तकालय बनाए जाएं।

Sub questions

Question Number : 96 Question Id : 9662319748 Question Type : MCQ Option Shuffling : Yes Display Question Number : Yes
Single Line Question Option : No Option Orientation : Vertical

Correct Marks : 1 Wrong Marks : 0.25

पुस्तकालय कैसा स्थान है?

Options :

1. ✖ जहाँ पुस्तकें खरीदी जाती हैं
2. ✖ जहाँ पुस्तकें फेंकी जाती हैं
3. ✔ जहाँ पुस्तकें वर्गीकृत करके क्रम में रखी जाती हैं
4. ✖ जहाँ पुस्तकें बेची जाती हैं

Question Number : 97 Question Id : 9662319749 Question Type : MCQ Option Shuffling : Yes Display Question Number : Yes
Single Line Question Option : No Option Orientation : Vertical

Correct Marks : 1 Wrong Marks : 0.25

पुस्तकालय कितने प्रकार के होते हैं?

Options :

1. ✘ दो
2. ✔ चार
3. ✘ बीस
4. ✘ केवल एक

Question Number : 98 Question Id : 9662319750 Question Type : MCQ Option Shuffling : Yes Display Question Number : Yes
Single Line Question Option : No Option Orientation : Vertical

Correct Marks : 1 Wrong Marks : 0.25

उर्युक्त गद्यांश का शीर्षक क्या है?

Options :

1. ✔ पुस्तकालय
2. ✘ पुस्तकों की दुकान
3. ✘ निजी पुस्तकालय
4. ✘ सरकारी पुस्तकालय

Question Number : 99 Question Id : 9662319751 Question Type : MCQ Option Shuffling : Yes Display Question Number : Yes
Single Line Question Option : No Option Orientation : Vertical

Correct Marks : 1 Wrong Marks : 0.25

पुस्तकालय कहाँ अधिक होने चाहिए?

Options :

1. ✘ शहरों में
2. ✘ हर घर में
3. ✔ गाँवों में
4. ✘ जंगलों में

Question Number : 100 Question Id : 9662319752 Question Type : MCQ Option Shuffling : Yes Display Question Number : Yes
Single Line Question Option : No Option Orientation : Vertical

Correct Marks : 1 Wrong Marks : 0.25

प्रतिभाशाली छात्रों की ज्ञान की इच्छा की शांति कब मिलती है?

Options :

1. ✔ पुस्तकें पढ़ कर
2. ✘ पुस्तकालय खोलकर
3. ✘ परीक्षा में पास होकर
4. ✘ टी.वी. देख कर

Discipline1

Group Number :	6
Group Id :	966231279
Group Maximum Duration :	0
Group Minimum Duration :	0
Revisit allowed for view? :	No
Revisit allowed for edit? :	No
Break time:	0
Group Marks:	20
Revisit allowed for group Instructions? :	Yes
Maximum Instruction Time:	0

Minimum Instruction Time:

0

Section Id :	966231394
Section Number :	1
Section type :	Online
Mandatory or Optional:	Mandatory
Number of Questions:	20
Number of Questions to be attempted:	20
Section Marks:	20
Display Number Panel:	Yes
Group All Questions:	No

Discipline1

Sub-Section Number:	1
Sub-Section Id:	966231446
Question Shuffling Allowed :	Yes

Question Number : 101 Question Id : 9662319753 Question Type : MCQ Option Shuffling : Yes Display Question Number : Yes
Single Line Question Option : No Option Orientation : Vertical

Correct Marks : 1 Wrong Marks : 0.25

The wrist has _____ carpal bones.

Options :

1. ✘ 5

2. ✘ 6

3. ✘ 7

4. ✔ 8

Question Number : 101 Question Id : 9662319753 Question Type : MCQ Option Shuffling : Yes Display Question Number : Yes
Single Line Question Option : No Option Orientation : Vertical

Correct Marks : 1 Wrong Marks : 0.25

कलाई में _____ कार्पल हड्डियां होती हैं।

Options :

1. ✘ 5

2. ✘ 6

3. ✘ 7

4. ✔ 8

Question Number : 102 Question Id : 9662319754 Question Type : MCQ Option Shuffling : Yes Display Question Number : Yes
Single Line Question Option : No Option Orientation : Vertical

Correct Marks : 1 Wrong Marks : 0.25

The clavicle or collar bone is a long bone with a slight _____ curve.

Options :

1. ✘ V-shaped
2. ✔ S-shaped
3. ✘ C-shaped
4. ✘ L-shaped

Question Number : 102 Question Id : 9662319754 Question Type : MCQ Option Shuffling : Yes Display Question Number : Yes
Single Line Question Option : No Option Orientation : Vertical

Correct Marks : 1 Wrong Marks : 0.25

हंसली या कॉलर हड्डी एक लंबी हड्डी होती है जिसमें हल्का _____ का वक्र होता है।

Options :

1. ✘ V-आकार
2. ✔ S-आकार
3. ✘ C-आकार
4. ✘ L-आकार

Question Number : 103 Question Id : 9662319755 Question Type : MCQ Option Shuffling : Yes Display Question Number : Yes
Single Line Question Option : No Option Orientation : Vertical

Correct Marks : 1 Wrong Marks : 0.25

The most commonly fractured bone in the body is the:

Options :

1. ✔ clavicle
2. ✘ scapula
3. ✘ lunate
4. ✘ capitate

Question Number : 103 Question Id : 9662319755 Question Type : MCQ Option Shuffling : Yes Display Question Number : Yes
Single Line Question Option : No Option Orientation : Vertical

Correct Marks : 1 Wrong Marks : 0.25

शरीर में सबसे अधिक भंग होने वाली (फ्रैक्चर्ड) हड्डी है:

Options :

1. ✓ हंसली (क्लैविकल)
2. ✗ कंधे की हड्डी (स्कैपुला)
3. ✗ पागल हो जाना (लूनेट)
4. ✗ समुंडिका (कैपिटेट)

Question Number : 104 Question Id : 9662319756 Question Type : MCQ Option Shuffling : Yes Display Question Number : Yes
Single Line Question Option : No Option Orientation : Vertical

Correct Marks : 1 Wrong Marks : 0.25

The most commonly used vein for venipuncture is the:

Options :

1. ✗ basilic vein
2. ✗ cephalic vein
3. ✓ median cubital vein
4. ✗ dorsal metacarpal vein

Question Number : 104 Question Id : 9662319756 Question Type : MCQ Option Shuffling : Yes Display Question Number : Yes
Single Line Question Option : No Option Orientation : Vertical

Correct Marks : 1 Wrong Marks : 0.25

वेनिपंकचर के लिए सबसे अधिक प्रयुक्त की जाने वाली शिरा है:

Options :

1. ✗ अंतर्बाहु (बैसिलिक) शिरा
2. ✗ शिरस्य (सेफेलिक) शिरा
3. ✓ मंझला घनाकार (मिडियन क्यूबिटल) शिरा
4. ✗ पृष्ठीय करभिकास्थि (डोर्सल मेटाकार्पल) शिरा

Question Number : 105 Question Id : 9662319757 Question Type : MCQ Option Shuffling : Yes Display Question Number : Yes
Single Line Question Option : No Option Orientation : Vertical

Correct Marks : 1 Wrong Marks : 0.25

The longest rib in the human body is the:

Options :

1. ✘ 5th rib
2. ✔ 7th rib
3. ✘ 8th rib
4. ✘ 9th rib

Question Number : 105 Question Id : 9662319757 Question Type : MCQ Option Shuffling : Yes Display Question Number : Yes
Single Line Question Option : No Option Orientation : Vertical

Correct Marks : 1 Wrong Marks : 0.25

मानव शरीर में सबसे लंबी पसली है:

Options :

1. ✘ 5वीं पसली
2. ✔ 7वीं पसली
3. ✘ 8वीं पसली
4. ✘ 9वीं पसली

Question Number : 106 Question Id : 9662319758 Question Type : MCQ Option Shuffling : Yes Display Question Number : Yes
Single Line Question Option : No Option Orientation : Vertical

Correct Marks : 1 Wrong Marks : 0.25

Irregular heart rate is called:

Options :

1. ✘ heart failure
2. ✘ tachycardia
3. ✘ bradycardia
4. ✔ arrhythmia

Question Number : 106 Question Id : 9662319758 Question Type : MCQ Option Shuffling : Yes Display Question Number : Yes
Single Line Question Option : No Option Orientation : Vertical

Correct Marks : 1 Wrong Marks : 0.25

अनियमित हृदय गति को कहा जाता है:

Options :

1. ✘ हृदय गति का रुक जाना
2. ✘ द्रुतनाड़ी (टैकीकार्डिया)
3. ✘ मंदनाड़ी (ब्रैडीकार्डिया)
4. ✔ अतालता (एरिदमिया)

Question Number : 107 Question Id : 9662319759 Question Type : MCQ Option Shuffling : Yes Display Question Number : Yes
Single Line Question Option : No Option Orientation : Vertical

Correct Marks : 1 Wrong Marks : 0.25

The largest artery of the human body is the:

Options :

1. ✘ brachial artery
2. ✔ aorta
3. ✘ renal artery
4. ✘ pulmonary artery

Question Number : 107 Question Id : 9662319759 Question Type : MCQ Option Shuffling : Yes Display Question Number : Yes
Single Line Question Option : No Option Orientation : Vertical

Correct Marks : 1 Wrong Marks : 0.25

मानव शरीर की सबसे बड़ी धमनी है:

Options :

1. ✘ बाहु-धमनी
2. ✔ महाधमनी
3. ✘ वृक्क धमनी
4. ✘ फुफ्फुस-धमनी

Question Number : 108 Question Id : 9662319760 Question Type : MCQ Option Shuffling : Yes Display Question Number : Yes
Single Line Question Option : No Option Orientation : Vertical

Correct Marks : 1 Wrong Marks : 0.25

The length of the pharynx is about:

Options :

1. ✘ 9 – 11cm
2. ✔ 12 – 14cm
3. ✘ 15 – 20cm
4. ✘ 20 – 25cm

Question Number : 108 Question Id : 9662319760 Question Type : MCQ Option Shuffling : Yes Display Question Number : Yes Single Line Question Option : No Option Orientation : Vertical

Correct Marks : 1 Wrong Marks : 0.25

ग्रसनी (फैरिंक्स) की लंबाई लगभग है:

Options :

1. ✘ 9 - 11cm
2. ✔ 12 - 14cm
3. ✘ 15 - 20cm
4. ✘ 20 - 25 cm

Question Number : 109 Question Id : 9662319761 Question Type : MCQ Option Shuffling : Yes Display Question Number : Yes Single Line Question Option : No Option Orientation : Vertical

Correct Marks : 1 Wrong Marks : 0.25

How many pairs of premolars are present in permanent teeth?

Options :

1. ✘ 2
2. ✘ 3
3. ✔ 4
4. ✘ 5

Question Number : 109 Question Id : 9662319761 Question Type : MCQ Option Shuffling : Yes Display Question Number : Yes Single Line Question Option : No Option Orientation : Vertical

Correct Marks : 1 Wrong Marks : 0.25

स्थायी दांतों में अग्रचर्वणक (प्रीमोलर) के कितने जोड़े होते हैं?

Options :

1. ✘ 2

2. ✘ 3

3. ✔ 4

4. ✘ 5

Question Number : 110 Question Id : 9662319762 Question Type : MCQ Option Shuffling : Yes Display Question Number : Yes
Single Line Question Option : No Option Orientation : Vertical

Correct Marks : 1 Wrong Marks : 0.25

How many pairs of cranial nerves are present in the human body?

Options :

1. ✘ 10

2. ✔ 12

3. ✘ 14

4. ✘ 16

Question Number : 110 Question Id : 9662319762 Question Type : MCQ Option Shuffling : Yes Display Question Number : Yes
Single Line Question Option : No Option Orientation : Vertical

Correct Marks : 1 Wrong Marks : 0.25

मानव शरीर में कपाल तंत्रिका के कितने जोड़े होते हैं?

Options :

1. ✘ 10

2. ✔ 12

3. ✘ 14

4. ✘ 16

Question Number : 111 Question Id : 9662319763 Question Type : MCQ Option Shuffling : Yes Display Question Number : Yes
Single Line Question Option : No Option Orientation : Vertical

Correct Marks : 1 Wrong Marks : 0.25

Which of the following is NOT an ear ossicle?

Options :

1. ✘ Malleus

2. ✘ Incus
3. ✘ Stapes
4. ✔ Tympanum

Question Number : 111 Question Id : 9662319763 Question Type : MCQ Option Shuffling : Yes Display Question Number : Yes
Single Line Question Option : No Option Orientation : Vertical
Correct Marks : 1 Wrong Marks : 0.25

निम्न में से कौन एक कान की हड्डी नहीं है?

Options :

1. ✘ मैलियस
2. ✘ इन्कस
3. ✘ स्टेपीज़
4. ✔ टिम्पेनम

Question Number : 112 Question Id : 9662319764 Question Type : MCQ Option Shuffling : Yes Display Question Number : Yes
Single Line Question Option : No Option Orientation : Vertical
Correct Marks : 1 Wrong Marks : 0.25

The tarsus is made of _____ tarsal bones.

Options :

1. ✘ 5
2. ✔ 7
3. ✘ 9
4. ✘ 11

Question Number : 112 Question Id : 9662319764 Question Type : MCQ Option Shuffling : Yes Display Question Number : Yes
Single Line Question Option : No Option Orientation : Vertical
Correct Marks : 1 Wrong Marks : 0.25

टार्सस, _____ टार्सल हड्डियों से बना है।

Options :

1. ✘ 5
2. ✔ 7

3. ✘ 9

4. ✘ 11

Question Number : 113 Question Id : 9662319765 Question Type : MCQ Option Shuffling : Yes Display Question Number : Yes
Single Line Question Option : No Option Orientation : Vertical

Correct Marks : 1 Wrong Marks : 0.25

The popliteal artery is the continuation of the:

Options :

1. ✘ anterior tibial artery

2. ✘ posterior tibial artery

3. ✔ femoral artery

4. ✘ obturator artery

Question Number : 113 Question Id : 9662319765 Question Type : MCQ Option Shuffling : Yes Display Question Number : Yes
Single Line Question Option : No Option Orientation : Vertical

Correct Marks : 1 Wrong Marks : 0.25

जानुपृष्ठीय (पोप्लिटियल) धमनी निम्न की विस्तार है:

Options :

1. ✘ अग्र अंतर्जघिका (टिबियल) धमनी

2. ✘ पश्च अंतर्जघिका धमनी

3. ✔ ऊरु (फेमरल) धमनी

4. ✘ श्रोणिरंध्रीय (ऑब्चुरेटर) धमनी

Question Number : 114 Question Id : 9662319766 Question Type : MCQ Option Shuffling : Yes Display Question Number : Yes
Single Line Question Option : No Option Orientation : Vertical

Correct Marks : 1 Wrong Marks : 0.25

The length of the female urethra is:

Options :

1. ✘ 2cm

2. ✔ 4cm

3. ✘ 6cm

4. ✘ 8cm

Question Number : 114 Question Id : 9662319766 Question Type : MCQ Option Shuffling : Yes Display Question Number : Yes
Single Line Question Option : No Option Orientation : Vertical

Correct Marks : 1 Wrong Marks : 0.25

महिला मूत्रमार्ग (फीमेल यूरेथ्रा) की लंबाई होती है:

Options :

1. ✘ 2 cm

2. ✔ 4 cm

3. ✘ 6 cm

4. ✘ 8 cm

Question Number : 115 Question Id : 9662319767 Question Type : MCQ Option Shuffling : Yes Display Question Number : Yes
Single Line Question Option : No Option Orientation : Vertical

Correct Marks : 1 Wrong Marks : 0.25

Which part of the duodenum is the commonest site of peptic ulcers?

Options :

1. ✔ First part

2. ✘ Second part

3. ✘ Third part

4. ✘ First part and second part

Question Number : 115 Question Id : 9662319767 Question Type : MCQ Option Shuffling : Yes Display Question Number : Yes
Single Line Question Option : No Option Orientation : Vertical

Correct Marks : 1 Wrong Marks : 0.25

ग्रहणी (डुओडिनम) का कौन सा भाग पेप्टिक अल्सर का सबसे सामान्य स्थल है?

Options :

1. ✔ प्रथम भाग

2. ✘ द्वितीय भाग

3. ✘ तृतीय भाग

4. ✘ प्रथम भाग और द्वितीय भाग

Question Number : 116 Question Id : 9662319768 Question Type : MCQ Option Shuffling : Yes Display Question Number : Yes
Single Line Question Option : No Option Orientation : Vertical

Correct Marks : 1 Wrong Marks : 0.25

The fundamental unit of life is the:

Options :

1. ✘ protein

2. ✔ cell

3. ✘ nucleus

4. ✘ cytoplasm

Question Number : 116 Question Id : 9662319768 Question Type : MCQ Option Shuffling : Yes Display Question Number : Yes
Single Line Question Option : No Option Orientation : Vertical

Correct Marks : 1 Wrong Marks : 0.25

जीवन की मूलभूत इकाई है:

Options :

1. ✘ प्रोटीन

2. ✔ कोशिका

3. ✘ नाभिक (न्यूक्लियस)

4. ✘ कोशिका द्रव्य (साइटोप्लाज्म)

Question Number : 117 Question Id : 9662319769 Question Type : MCQ Option Shuffling : Yes Display Question Number : Yes
Single Line Question Option : No Option Orientation : Vertical

Correct Marks : 1 Wrong Marks : 0.25

The power house of the cell is the:

Options :

1. ✘ cytoplasm

2. ✘ lysosome

3. ✓ mitochondria

4. ✗ centriole

Question Number : 117 Question Id : 9662319769 Question Type : MCQ Option Shuffling : Yes Display Question Number : Yes
Single Line Question Option : No Option Orientation : Vertical

Correct Marks : 1 Wrong Marks : 0.25

कोशिका का पावर हाउस है:

Options :

1. ✗ कोशिका द्रव्य (साइटोप्लाज्म)

2. ✗ लयनकाय (लाइसोसोम)

3. ✓ सूत्र कणिका (माइटोकॉन्ड्रिया)

4. ✗ तारककेंद्रक (सेन्ट्रीओल)

Question Number : 118 Question Id : 9662319770 Question Type : MCQ Option Shuffling : Yes Display Question Number : Yes
Single Line Question Option : No Option Orientation : Vertical

Correct Marks : 1 Wrong Marks : 0.25

The fluid portion of the blood is called:

Options :

1. ✗ interstitial fluid

2. ✗ trans-cellular fluid

3. ✗ lymph

4. ✓ plasma

Question Number : 118 Question Id : 9662319770 Question Type : MCQ Option Shuffling : Yes Display Question Number : Yes
Single Line Question Option : No Option Orientation : Vertical

Correct Marks : 1 Wrong Marks : 0.25

रक्त के द्रव भाग को कहा जाता है:

Options :

1. ✗ अंतराकाशी (इंटरस्टिशियल) तरल

2. ✗ ट्रांस-सेल्युलर तरल

3. ✘ लसीका (लिंफ)

4. ✔ प्लाविका (प्लाज्मा)

Question Number : 119 Question Id : 9662319771 Question Type : MCQ Option Shuffling : Yes Display Question Number : Yes
Single Line Question Option : No Option Orientation : Vertical

Correct Marks : 1 Wrong Marks : 0.25

If the bone breaks in one place and no serious damage done to the surrounding tissues, then it is called:

Options :

1. ✘ open fracture

2. ✔ closed fracture

3. ✘ complicated fracture

4. ✘ comminuted fracture

Question Number : 119 Question Id : 9662319771 Question Type : MCQ Option Shuffling : Yes Display Question Number : Yes
Single Line Question Option : No Option Orientation : Vertical

Correct Marks : 1 Wrong Marks : 0.25

यदि हड्डी एक जगह से टूट जाती है और आसपास के ऊतकों को कोई गंभीर नुकसान नहीं होता है, तो इसे कहा जाता है:

Options :

1. ✘ विवृत (ओपन) अस्थिभंग

2. ✔ संवृत (क्लोज्ड) अस्थिभंग

3. ✘ जटिल अस्थिभंग

4. ✘ विखण्डित (कम्यूटेड) अस्थिभंग

Question Number : 120 Question Id : 9662319772 Question Type : MCQ Option Shuffling : Yes Display Question Number : Yes
Single Line Question Option : No Option Orientation : Vertical

Correct Marks : 1 Wrong Marks : 0.25

The normal range of WBC is between:

Options :

1. ✘ 1000 – 3000 cells

2. ✔ 4000 – 11000 cells

3. ✘ 12000 – 36000 cells

4. ✘ 37000 – 48000 cells

Question Number : 120 Question Id : 9662319772 Question Type : MCQ Option Shuffling : Yes Display Question Number : Yes
Single Line Question Option : No Option Orientation : Vertical

Correct Marks : 1 Wrong Marks : 0.25

डब्ल्यूबीसी (WBC) की सामान्य सीमा इनके बीच होती है:

Options :

1. ✘ 1000 - 3000 कोशिका

2. ✔ 4000 - 11000 कोशिका

3. ✘ 12000 - 36000 कोशिका

4. ✘ 37000 - 48000 कोशिका

Discipline2

Group Number :	7
Group Id :	966231280
Group Maximum Duration :	0
Group Minimum Duration :	0
Revisit allowed for view? :	No
Revisit allowed for edit? :	No
Break time:	0
Group Marks:	20
Revisit allowed for group Instructions? :	Yes
Maximum Instruction Time:	0
Minimum Instruction Time:	0

Discipline2

Section Id :	966231395
Section Number :	1
Section type :	Online
Mandatory or Optional:	Mandatory
Number of Questions:	20
Number of Questions to be attempted:	20
Section Marks:	20
Display Number Panel:	Yes
Group All Questions:	No

Sub-Section Number:

1

Sub-Section Id:

966231447

Question Shuffling Allowed :

Yes

Question Number : 121 Question Id : 9662319773 Question Type : MCQ Option Shuffling : Yes Display Question Number : Yes
Single Line Question Option : No Option Orientation : Vertical

Correct Marks : 1 Wrong Marks : 0.25

The normal life span of RBC is:

Options :

1. ✘ 10 days
2. ✘ 70 days
3. ✔ 120 days
4. ✘ 180 days

Question Number : 121 Question Id : 9662319773 Question Type : MCQ Option Shuffling : Yes Display Question Number : Yes
Single Line Question Option : No Option Orientation : Vertical

Correct Marks : 1 Wrong Marks : 0.25

आरबीसी (RBC) का सामान्य जीवन काल है:

Options :

1. ✘ 10 दिन
2. ✘ 70 दिन
3. ✔ 120 दिन
4. ✘ 180 दिन

Question Number : 122 Question Id : 9662319774 Question Type : MCQ Option Shuffling : Yes Display Question Number : Yes
Single Line Question Option : No Option Orientation : Vertical

Correct Marks : 1 Wrong Marks : 0.25

The first line of defence against bacterial infection is:

Options :

1. ✔ neutrophil
2. ✘ monocyte
3. ✘ basophil
4. ✘ lymphocyte

Question Number : 122 Question Id : 9662319774 Question Type : MCQ Option Shuffling : Yes Display Question Number : Yes
Single Line Question Option : No Option Orientation : Vertical

Correct Marks : 1 Wrong Marks : 0.25

बैक्टीरिया संक्रमण के खिलाफ रक्षा की पहली पंक्ति है:

Options :

1. ✓ न्यूट्रोफिल
2. ✗ मोनोसाइट
3. ✗ बेसोफिल
4. ✗ लिम्फोसाइट

Question Number : 123 Question Id : 9662319775 Question Type : MCQ Option Shuffling : Yes Display Question Number : Yes
Single Line Question Option : No Option Orientation : Vertical

Correct Marks : 1 Wrong Marks : 0.25

Closure of AV valves causes:

Options :

1. ✓ first heart sound
2. ✗ second heart sound
3. ✗ third heart sound
4. ✗ fourth heart sound

Question Number : 123 Question Id : 9662319775 Question Type : MCQ Option Shuffling : Yes Display Question Number : Yes
Single Line Question Option : No Option Orientation : Vertical

Correct Marks : 1 Wrong Marks : 0.25

एवी (AV) वाल्व बंद होने पर निम्न में से क्या होता है?

Options :

1. ✓ प्रथम हृद् ध्वनि
2. ✗ द्वितीय हृद् ध्वनि
3. ✗ तृतीय हृद् ध्वनि
4. ✗ चतुर्थ हृद् ध्वनि

Question Number : 124 Question Id : 9662319776 Question Type : MCQ Option Shuffling : Yes Display Question Number : Yes
Single Line Question Option : No Option Orientation : Vertical

Correct Marks : 1 Wrong Marks : 0.25

The normal heart rate in an adult is:

Options :

1. ✓ 70 – 80 bpm
2. ✗ 90 – 110 bpm
3. ✗ 120 –140 bpm
4. ✗ 150 –160 bpm

Question Number : 124 Question Id : 9662319776 Question Type : MCQ Option Shuffling : Yes Display Question Number : Yes
Single Line Question Option : No Option Orientation : Vertical

Correct Marks : 1 Wrong Marks : 0.25

एक वयस्क की सामान्य हृदय गति होती है:

Options :

1. ✓ 70 - 80 bpm
2. ✗ 90 - 110 bpm
3. ✗ 120 -140 bpm
4. ✗ 150 -160 bpm

Question Number : 125 Question Id : 9662319777 Question Type : MCQ Option Shuffling : Yes Display Question Number : Yes
Single Line Question Option : No Option Orientation : Vertical

Correct Marks : 1 Wrong Marks : 0.25

The full form of ECG is:

Options :

1. ✗ Electric Cardiogram
2. ✓ Electro Cardiogram
3. ✗ Effective Cardiogram
4. ✗ Effective Cardiograph

Question Number : 125 Question Id : 9662319777 Question Type : MCQ Option Shuffling : Yes Display Question Number : Yes
Single Line Question Option : No Option Orientation : Vertical

Correct Marks : 1 Wrong Marks : 0.25

ECG (ईसीजी) का पूरा नाम है:

Options :

1. ✘ Electric Cardiogram (इलेक्ट्रिक कार्डियोग्राम)
2. ✔ Electro Cardiogram (इलेक्ट्रो कार्डियोग्राम)
3. ✘ Effective Cardiogram (इफेक्टिव कार्डियोग्राम)
4. ✘ Effective Cardiograph (इफेक्टिव कार्डियोग्राफ)

Question Number : 126 Question Id : 9662319778 Question Type : MCQ Option Shuffling : Yes Display Question Number : Yes
Single Line Question Option : No Option Orientation : Vertical

Correct Marks : 1 Wrong Marks : 0.25

How many pairs of salivary glands are present in a human body?

Options :

1. ✘ 2
2. ✔ 3
3. ✘ 4
4. ✘ 5

Question Number : 126 Question Id : 9662319778 Question Type : MCQ Option Shuffling : Yes Display Question Number : Yes
Single Line Question Option : No Option Orientation : Vertical

Correct Marks : 1 Wrong Marks : 0.25

मानव शरीर में लार ग्रंथियों के कितने जोड़े होते हैं?

Options :

1. ✘ 2
2. ✔ 3
3. ✘ 4
4. ✘ 5

Question Number : 127 Question Id : 9662319779 Question Type : MCQ Option Shuffling : Yes Display Question Number : Yes
Single Line Question Option : No Option Orientation : Vertical

Correct Marks : 1 Wrong Marks : 0.25

Which of the following is NOT a fat soluble vitamin?

Options :

1. ✘ Vitamin A
2. ✔ Vitamin B
3. ✘ Vitamin D
4. ✘ Vitamin E

Question Number : 127 Question Id : 9662319779 Question Type : MCQ Option Shuffling : Yes Display Question Number : Yes
Single Line Question Option : No Option Orientation : Vertical

Correct Marks : 1 Wrong Marks : 0.25

निम्नलिखित में से कौन सा वसा में घुलनशील विटामिन नहीं है?

Options :

1. ✘ विटामिन A
2. ✔ विटामिन B
3. ✘ विटामिन D
4. ✘ विटामिन E

Question Number : 128 Question Id : 9662319780 Question Type : MCQ Option Shuffling : Yes Display Question Number : Yes
Single Line Question Option : No Option Orientation : Vertical

Correct Marks : 1 Wrong Marks : 0.25

The deficiency of vitamin C causes:

Options :

1. ✘ night blindness
2. ✘ beriberi
3. ✔ scurvy
4. ✘ rickets

Question Number : 128 Question Id : 9662319780 Question Type : MCQ Option Shuffling : Yes Display Question Number : Yes
Single Line Question Option : No Option Orientation : Vertical

Correct Marks : 1 Wrong Marks : 0.25

विटामिन C की कमी के कारण होता है:

Options :

1. ✘ रतौंधी
2. ✘ बेरीबेरी
3. ✔ स्कर्वी
4. ✘ सूखा रोग (रिकेट्स)

Question Number : 129 Question Id : 9662319781 Question Type : MCQ Option Shuffling : Yes Display Question Number : Yes
Single Line Question Option : No Option Orientation : Vertical

Correct Marks : 1 Wrong Marks : 0.25

Vitamin B1 is also known as:

Options :

1. ✔ thiamine
2. ✘ riboflavin
3. ✘ niacin
4. ✘ pyridoxine

Question Number : 129 Question Id : 9662319781 Question Type : MCQ Option Shuffling : Yes Display Question Number : Yes
Single Line Question Option : No Option Orientation : Vertical

Correct Marks : 1 Wrong Marks : 0.25

विटामिन B1 को इस रूप में भी जाना जाता है:

Options :

1. ✔ थायमिन
2. ✘ राइबोफ्लेविन
3. ✘ नियासिन
4. ✘ पाइरिडॉक्सिन

Question Number : 130 Question Id : 9662319782 Question Type : MCQ Option Shuffling : Yes Display Question Number : Yes
Single Line Question Option : No Option Orientation : Vertical

Correct Marks : 1 Wrong Marks : 0.25

The volume of air breathed in and out of the lungs during quiet respiration is:

Options :

- ✘ inspiratory reserve volume
- ✘ expiratory reserve volume
- ✔ tidal volume
- ✘ residual volume

Question Number : 130 Question Id : 9662319782 Question Type : MCQ Option Shuffling : Yes Display Question Number : Yes
Single Line Question Option : No Option Orientation : Vertical

Correct Marks : 1 Wrong Marks : 0.25

शांत श्वसन के दौरान फेफड़ों के भीतर और बाहर सांस ली और निकाले जाने वाली हवा की आयतन है:

Options :

- ✘ (प्रश्वसन आरक्षित आयतन) इंसपिरेटरी रिजर्व आयतन
- ✘ निःश्वसन आरक्षित आयतन (एक्स्पिरेटरी रिजर्व आयतन)
- ✔ ज्वारीय (टाइडल) आयतन
- ✘ अवशिष्ट आयतन

Question Number : 131 Question Id : 9662319783 Question Type : MCQ Option Shuffling : Yes Display Question Number : Yes
Single Line Question Option : No Option Orientation : Vertical

Correct Marks : 1 Wrong Marks : 0.25

Lack of oxygen at tissue level is called:

Options :

- ✘ dyspnoea
- ✘ apnoea
- ✔ hypoxia
- ✘ hyperventilation

Question Number : 131 Question Id : 9662319783 Question Type : MCQ Option Shuffling : Yes Display Question Number : Yes
Single Line Question Option : No Option Orientation : Vertical

Correct Marks : 1 Wrong Marks : 0.25

ऊतक स्तर पर ऑक्सीजन की कमी को कहा जाता है:

Options :

1. ✘ दम फूलना (डिस्पनिया)
2. ✘ अश्वसन (एपनिया)
3. ✔ अल्प-ऑक्सीयता (हाइपोक्सिया)
4. ✘ अतिवातायनता (हाइपरवेंटिलेशन)

Question Number : 132 Question Id : 9662319784 Question Type : MCQ Option Shuffling : Yes Display Question Number : Yes
Single Line Question Option : No Option Orientation : Vertical

Correct Marks : 1 Wrong Marks : 0.25

The basic functional unit of the kidney is the:

Options :

1. ✘ neuron
2. ✘ lung
3. ✘ brain
4. ✔ nephron

Question Number : 132 Question Id : 9662319784 Question Type : MCQ Option Shuffling : Yes Display Question Number : Yes
Single Line Question Option : No Option Orientation : Vertical

Correct Marks : 1 Wrong Marks : 0.25

गुर्दे (किडनी) की मूल कार्यात्मक इकाई है:

Options :

1. ✘ न्यूरॉन
2. ✘ फेफड़ा
3. ✘ मस्तिष्क
4. ✔ नेफ्रॉन

Question Number : 133 Question Id : 9662319785 Question Type : MCQ Option Shuffling : Yes Display Question Number : Yes
Single Line Question Option : No Option Orientation : Vertical

Correct Marks : 1 Wrong Marks : 0.25

Vasopressin is also called:

Options :

1. ✘ prolactin
2. ✘ growth hormone
3. ✔ anti-diuretic hormone
4. ✘ oxytocin

Question Number : 133 Question Id : 9662319785 Question Type : MCQ Option Shuffling : Yes Display Question Number : Yes
Single Line Question Option : No Option Orientation : Vertical

Correct Marks : 1 Wrong Marks : 0.25

वासोप्रेसिन को यह भी कहा जाता है:

Options :

1. ✘ प्रोलैक्टिन
2. ✘ वृद्धि हार्मोन
3. ✔ प्रतिमूत्रल (एन्टिडाययूरेटिक) हार्मोन
4. ✘ ऑक्सीटोसिन

Question Number : 134 Question Id : 9662319786 Question Type : MCQ Option Shuffling : Yes Display Question Number : Yes
Single Line Question Option : No Option Orientation : Vertical

Correct Marks : 1 Wrong Marks : 0.25

The unit for the measurement of illuminating power of a source of light is:

Options :

1. ✘ kelvin
2. ✘ mole
3. ✔ candela
4. ✘ ampere

Question Number : 134 Question Id : 9662319786 Question Type : MCQ Option Shuffling : Yes Display Question Number : Yes
Single Line Question Option : No Option Orientation : Vertical

Correct Marks : 1 Wrong Marks : 0.25

एक प्रकाशस्रोत की प्रदीपक शक्ति की माप की इकाई है:

Options :

1. ✘ केल्विन
2. ✘ मोल
3. ✔ केंडेला
4. ✘ एम्पीयर

Question Number : 135 Question Id : 9662319787 Question Type : MCQ Option Shuffling : Yes Display Question Number : Yes
Single Line Question Option : No Option Orientation : Vertical

Correct Marks : 1 Wrong Marks : 0.25

Name the instrument which is used to measure the potential difference between any two points of a conductor or any part of a circuit.

Options :

1. ✘ Super conductor
2. ✔ Voltmeter
3. ✘ Magnetic flux
4. ✘ Electromagnetic induction

Question Number : 135 Question Id : 9662319787 Question Type : MCQ Option Shuffling : Yes Display Question Number : Yes
Single Line Question Option : No Option Orientation : Vertical

Correct Marks : 1 Wrong Marks : 0.25

उस यंत्र का नाम बताएं जिसका प्रयोग एक चालक (कंडक्टर) के किसी भी दो बिंदुओं के बीच के विभवांतर या परिपथ (सर्किट) के किसी भाग को मापने के लिए किया जाता है।

Options :

1. ✘ अतिचालक (सुपर कंडक्टर)
2. ✔ वोल्टमीटर
3. ✘ चुंबकीय अभिवाह (मैग्नेटिक फ्लक्स)
4. ✘ विद्युत-चुम्बकीय प्रेरण (इलेक्ट्रोमैग्नेटिक इंडक्शन)

Question Number : 136 Question Id : 9662319788 Question Type : MCQ Option Shuffling : Yes Display Question Number : Yes
Single Line Question Option : No Option Orientation : Vertical

Correct Marks : 1 Wrong Marks : 0.25

Which ray is NOT emitted by radioactive substances?

Options :

1. ✘ alpha
2. ✘ beta
3. ✘ gamma
4. ✔ delta

Question Number : 136 Question Id : 9662319788 Question Type : MCQ Option Shuffling : Yes Display Question Number : Yes
Single Line Question Option : No Option Orientation : Vertical

Correct Marks : 1 Wrong Marks : 0.25

रेडियोधर्मी पदार्थों द्वारा कौन सी किरण उत्सर्जित नहीं होती है?

Options :

1. ✘ अल्फा
2. ✘ बीटा
3. ✘ गामा
4. ✔ डेल्टा

Question Number : 137 Question Id : 9662319789 Question Type : MCQ Option Shuffling : Yes Display Question Number : Yes
Single Line Question Option : No Option Orientation : Vertical

Correct Marks : 1 Wrong Marks : 0.25

X-rays were discovered in the year:

Options :

1. ✘ 1865
2. ✘ 1875
3. ✘ 1885
4. ✔ 1895

Question Number : 137 Question Id : 9662319789 Question Type : MCQ Option Shuffling : Yes Display Question Number : Yes
Single Line Question Option : No Option Orientation : Vertical

Correct Marks : 1 Wrong Marks : 0.25

किस वर्ष में एक्स-रे की खोज की गई?

Options :

1. ✘ 1865

2. ✘ 1875

3. ✘ 1885

4. ✔ 1895

Question Number : 138 Question Id : 9662319790 Question Type : MCQ Option Shuffling : Yes Display Question Number : Yes
Single Line Question Option : No Option Orientation : Vertical

Correct Marks : 1 Wrong Marks : 0.25

The SI unit of power is:

Options :

1. ✘ candela

2. ✔ watt

3. ✘ ampere

4. ✘ centimetre

Question Number : 138 Question Id : 9662319790 Question Type : MCQ Option Shuffling : Yes Display Question Number : Yes
Single Line Question Option : No Option Orientation : Vertical

Correct Marks : 1 Wrong Marks : 0.25

शक्ति की SI इकाई है:

Options :

1. ✘ कैंडेला

2. ✔ वाट

3. ✘ एम्पियर

4. ✘ सेंटीमीटर

Question Number : 139 Question Id : 9662319791 Question Type : MCQ Option Shuffling : Yes Display Question Number : Yes
Single Line Question Option : No Option Orientation : Vertical

Correct Marks : 1 Wrong Marks : 0.25

What is the half-life of cobalt-60?

Options :

1. ✘ 5.56 years

2. ✔ 5.26 years

3. ✘ 5.76 years

4. ✘ 5.86 years

Question Number : 139 Question Id : 9662319791 Question Type : MCQ Option Shuffling : Yes Display Question Number : Yes
Single Line Question Option : No Option Orientation : Vertical

Correct Marks : 1 Wrong Marks : 0.25

कोबाल्ट-60 का अर्ध जीवनकाल क्या है?

Options :

1. ✘ 5.56 वर्ष

2. ✔ 5.26 वर्ष

3. ✘ 5.76 वर्ष

4. ✘ 5.86 वर्ष

Question Number : 140 Question Id : 9662319792 Question Type : MCQ Option Shuffling : Yes Display Question Number : Yes
Single Line Question Option : No Option Orientation : Vertical

Correct Marks : 1 Wrong Marks : 0.25

Isotopes have _____.

Options :

1. ✔ same atomic number

2. ✘ same mass number

3. ✘ different atomic number

4. ✘ same number of neutrons

Question Number : 140 Question Id : 9662319792 Question Type : MCQ Option Shuffling : Yes Display Question Number : Yes
Single Line Question Option : No Option Orientation : Vertical

Correct Marks : 1 Wrong Marks : 0.25

समस्थानिकों (आइसोटोप) में _____ होती है।

Options :

1. ✔ समान परमाणु संख्या

2. ✘ समान द्रव्यमान संख्या

3. ✖ भिन्न परमाणु संख्या

4. ✖ न्यूट्रॉन की समान संख्या

Discipline3

Group Number :	8
Group Id :	966231281
Group Maximum Duration :	0
Group Minimum Duration :	0
Revisit allowed for view? :	No
Revisit allowed for edit? :	No
Break time:	0
Group Marks:	20
Revisit allowed for group Instructions? :	Yes
Maximum Instruction Time:	0
Minimum Instruction Time:	0

Discipline3

Section Id :	966231396
Section Number :	1
Section type :	Online
Mandatory or Optional:	Mandatory
Number of Questions:	20
Number of Questions to be attempted:	20
Section Marks:	20
Display Number Panel:	Yes
Group All Questions:	No

Sub-Section Number:	1
Sub-Section Id:	966231448
Question Shuffling Allowed :	Yes

Question Number : 141 Question Id : 9662319793 Question Type : MCQ Option Shuffling : Yes Display Question Number : Yes
Single Line Question Option : No Option Orientation : Vertical

Correct Marks : 1 Wrong Marks : 0.25

Which of the following is a powerful radiosensitizer?

Options :

1. ✓ Oxygen

2. ✖ Nitrogen

3. ✖ Hydrogen

4. ✘ Carbon

Question Number : 141 Question Id : 9662319793 Question Type : MCQ Option Shuffling : Yes Display Question Number : Yes
Single Line Question Option : No Option Orientation : Vertical

Correct Marks : 1 Wrong Marks : 0.25

निम्न में से कौन एक शक्तिशाली रेडियो संवेदी है?

Options :

1. ✔ ऑक्सीजन

2. ✘ नाइट्रोजन

3. ✘ हाइड्रोजन

4. ✘ कार्बन

Question Number : 142 Question Id : 9662319794 Question Type : MCQ Option Shuffling : Yes Display Question Number : Yes
Single Line Question Option : No Option Orientation : Vertical

Correct Marks : 1 Wrong Marks : 0.25

Which material has the highest number of electrons per gram?

Options :

1. ✔ Hydrogen

2. ✘ Carbon

3. ✘ Oxygen

4. ✘ Aluminium

Question Number : 142 Question Id : 9662319794 Question Type : MCQ Option Shuffling : Yes Display Question Number : Yes
Single Line Question Option : No Option Orientation : Vertical

Correct Marks : 1 Wrong Marks : 0.25

किस पदार्थ में प्रति ग्राम इलेक्ट्रॉनों की संख्या सबसे अधिक है?

Options :

1. ✔ हाइड्रोजन

2. ✘ कार्बन

3. ✘ ऑक्सीजन

4. ✖ एल्युमीनियम

Question Number : 143 Question Id : 9662319795 Question Type : MCQ Option Shuffling : Yes Display Question Number : Yes
Single Line Question Option : No Option Orientation : Vertical

Correct Marks : 1 Wrong Marks : 0.25

How many rad equals to one roentgen?

Options :

1. ✖ 0.786

2. ✖ 0.676

3. ✔ 0.876

4. ✖ 0.576

Question Number : 143 Question Id : 9662319795 Question Type : MCQ Option Shuffling : Yes Display Question Number : Yes
Single Line Question Option : No Option Orientation : Vertical

Correct Marks : 1 Wrong Marks : 0.25

एक रून्टगेन में कितने रैड तुल्य होते हैं?

Options :

1. ✖ 0.786

2. ✖ 0.676

3. ✔ 0.876

4. ✖ 0.576

Question Number : 144 Question Id : 9662319796 Question Type : MCQ Option Shuffling : Yes Display Question Number : Yes
Single Line Question Option : No Option Orientation : Vertical

Correct Marks : 1 Wrong Marks : 0.25

Photo-electric effect is directly proportional to:

Options :

1. ✖ (atomic number)²

2. ✖ (mass number)²

3. ✔ (atomic number)³

4. ✘ (mass number)³

Question Number : 144 Question Id : 9662319796 Question Type : MCQ Option Shuffling : Yes Display Question Number : Yes
Single Line Question Option : No Option Orientation : Vertical

Correct Marks : 1 Wrong Marks : 0.25

प्रकाश विद्युत प्रभाव (फोटो-इलेक्ट्रिक प्रभाव) निम्न का सीधा आनुपातिक है:

Options :

1. ✘ (परमाणु संख्या)²

2. ✘ (द्रव्यमान संख्या)²

3. ✔ (परमाणु संख्या)³

4. ✘ (द्रव्यमान संख्या)³

Question Number : 145 Question Id : 9662319797 Question Type : MCQ Option Shuffling : Yes Display Question Number : Yes
Single Line Question Option : No Option Orientation : Vertical

Correct Marks : 1 Wrong Marks : 0.25

Distortion results from unequal magnification of different parts of:

Options :

1. ✔ same object

2. ✘ different object

3. ✘ close object

4. ✘ distant object

Question Number : 145 Question Id : 9662319797 Question Type : MCQ Option Shuffling : Yes Display Question Number : Yes
Single Line Question Option : No Option Orientation : Vertical

Correct Marks : 1 Wrong Marks : 0.25

_____ के विभिन्न भागों के असमान आवर्धन के चलते विकृति होती है।

Options :

1. ✔ समान वस्तु

2. ✘ भिन्न वस्तु

3. ✘ समीपस्थ वस्तु

4. ✘ दूरस्थ वस्तु

Question Number : 146 Question Id : 9662319798 Question Type : MCQ Option Shuffling : Yes Display Question Number : Yes
Single Line Question Option : No Option Orientation : Vertical

Correct Marks : 1 Wrong Marks : 0.25

Which of the following methods is NOT used to control radiation exposure levels?

Options :

1. ✘ Distance

2. ✔ Calculation

3. ✘ Time

4. ✘ Barrier

Question Number : 146 Question Id : 9662319798 Question Type : MCQ Option Shuffling : Yes Display Question Number : Yes
Single Line Question Option : No Option Orientation : Vertical

Correct Marks : 1 Wrong Marks : 0.25

विकिरण जोखिम के स्तर को नियंत्रित करने के लिए निम्न में से किस विधि का उपयोग नहीं होता है?

Options :

1. ✘ दूरी

2. ✔ गणना

3. ✘ समय

4. ✘ अवरोध (बैरियर)

Question Number : 147 Question Id : 9662319799 Question Type : MCQ Option Shuffling : Yes Display Question Number : Yes
Single Line Question Option : No Option Orientation : Vertical

Correct Marks : 1 Wrong Marks : 0.25

1 calorie of heat is equal to:

Options :

1. ✔ 4.2 joules

2. ✘ 2.4 joules

3. ✘ 3.6 joules

4. ✘ 6.3 joules

Question Number : 147 Question Id : 9662319799 Question Type : MCQ Option Shuffling : Yes Display Question Number : Yes
Single Line Question Option : No Option Orientation : Vertical

Correct Marks : 1 Wrong Marks : 0.25

1 कैलोरी ऊष्मा निम्न के बराबर है:

Options :

1. ✔ 4.2 जूल

2. ✘ 2.4 जूल

3. ✘ 3.6 जूल

4. ✘ 6.3 जूल

Question Number : 148 Question Id : 9662319800 Question Type : MCQ Option Shuffling : Yes Display Question Number : Yes
Single Line Question Option : No Option Orientation : Vertical

Correct Marks : 1 Wrong Marks : 0.25

What is the symbol for tungsten?

Options :

1. ✘ Tu

2. ✔ W

3. ✘ Hn

4. ✘ S

Question Number : 148 Question Id : 9662319800 Question Type : MCQ Option Shuffling : Yes Display Question Number : Yes
Single Line Question Option : No Option Orientation : Vertical

Correct Marks : 1 Wrong Marks : 0.25

टंगस्टन का प्रतीक क्या है?

Options :

1. ✘ Tu

2. ✔ W

3. ✘ Hn

4. ✘ S

Question Number : 149 Question Id : 9662319801 Question Type : MCQ Option Shuffling : Yes Display Question Number : Yes
Single Line Question Option : No Option Orientation : Vertical

Correct Marks : 1 Wrong Marks : 0.25

Which is the maximum number of electrons in the L Shell of an atom?

Options :

1. ✘ 2

2. ✔ 8

3. ✘ 12

4. ✘ 26

Question Number : 149 Question Id : 9662319801 Question Type : MCQ Option Shuffling : Yes Display Question Number : Yes
Single Line Question Option : No Option Orientation : Vertical

Correct Marks : 1 Wrong Marks : 0.25

किसी परमाणु के L शैल में इलेक्ट्रॉनों की अधिकतम संख्या कितनी होती है?

Options :

1. ✘ 2

2. ✔ 8

3. ✘ 12

4. ✘ 26

Question Number : 150 Question Id : 9662319802 Question Type : MCQ Option Shuffling : Yes Display Question Number : Yes
Single Line Question Option : No Option Orientation : Vertical

Correct Marks : 1 Wrong Marks : 0.25

The full form of ARSAC is:

Options :

1. ✘ Active Radiation Substance Advisory Committee

2. ✘ Active Radiation Source of Active Committee

3. ✔ Administration of Radioactive Substances Advisory Committee

4. ✘ Administration of Radiation Source of Advisory Committee

Question Number : 150 Question Id : 9662319802 Question Type : MCQ Option Shuffling : Yes Display Question Number : Yes
Single Line Question Option : No Option Orientation : Vertical

Correct Marks : 1 Wrong Marks : 0.25

ARSAC का पूर्ण रूप है:

Options :

1. ✘ Active Radiation Substance Advisory Committee (एक्टिव रेडिएशन सबस्टांस एडवाइजरी कमिटी)
2. ✘ Active Radiation Source of Active Committee (एक्टिव रेडिएशन सोर्स ऑफ एक्टिव कमिटी)
3. ✔ Administration of Radioactive Substances Advisory Committee (एडमिनिस्ट्रेशन ऑफ रेडियोएक्टिव सबस्टांस एडवाइजरी कमिटी)
4. ✘ Administration of Radiation Source of Advisory Committee (एडमिनिस्ट्रेशन ऑफ रेडिएशन सोर्स ऑफ एडवाइजरी कमिटी)

Question Number : 151 Question Id : 9662319803 Question Type : MCQ Option Shuffling : Yes Display Question Number : Yes
Single Line Question Option : No Option Orientation : Vertical

Correct Marks : 1 Wrong Marks : 0.25

Genetic effects are referred to as:

Options :

1. ✘ deterministic effect
2. ✔ stochastic effect
3. ✘ early effect
4. ✘ somatic effect

Question Number : 151 Question Id : 9662319803 Question Type : MCQ Option Shuffling : Yes Display Question Number : Yes
Single Line Question Option : No Option Orientation : Vertical

Correct Marks : 1 Wrong Marks : 0.25

आनुवंशिक प्रभाव को निम्न रूप में संदर्भित किया जाता है:

Options :

1. ✘ नियतात्मक (डिटरमिनिस्टिक) प्रभाव
2. ✔ प्रसंभाव्य (स्टोकैस्टिक) प्रभाव
3. ✘ शुरुआती (अर्ली) प्रभाव
4. ✘ कायिक (सोमैटिक) प्रभाव

Question Number : 152 Question Id : 9662319804 Question Type : MCQ Option Shuffling : Yes Display Question Number : Yes
Single Line Question Option : No Option Orientation : Vertical

Correct Marks : 1 Wrong Marks : 0.25

Half-life of I-131 is:

Options :

1. 8 days
2. 33.3 days
3. 30 days
4. 18 days

Question Number : 152 Question Id : 9662319804 Question Type : MCQ Option Shuffling : Yes Display Question Number : Yes
Single Line Question Option : No Option Orientation : Vertical

Correct Marks : 1 Wrong Marks : 0.25

I-131 का अर्ध जीवनकाल है:

Options :

1. 8 दिन
2. 33.3 दिन
3. 30 दिन
4. 18 दिन

Question Number : 153 Question Id : 9662319805 Question Type : MCQ Option Shuffling : Yes Display Question Number : Yes
Single Line Question Option : No Option Orientation : Vertical

Correct Marks : 1 Wrong Marks : 0.25

In case of chronic exposure, what is the threshold dose for cataract?

Options :

1. 4 Gy
2. 8 Gy
3. 3 Gy
4. 2 Gy

Question Number : 153 Question Id : 9662319805 Question Type : MCQ Option Shuffling : Yes Display Question Number : Yes
Single Line Question Option : No Option Orientation : Vertical

Correct Marks : 1 Wrong Marks : 0.25

जीर्ण अनावरण (क्रोनिक एक्सपोजर) के मामले में, मोतियाबिंद के लिए प्रभावसीमा (थ्रेशोल्ड) खुराक क्या है?

Options :

1. ✘ 4 Gy

2. ✔ 8 Gy

3. ✘ 3 Gy

4. ✘ 2 Gy

Question Number : 154 Question Id : 9662319806 Question Type : MCQ Option Shuffling : Yes Display Question Number : Yes
Single Line Question Option : No Option Orientation : Vertical

Correct Marks : 1 Wrong Marks : 0.25

Which radionuclide is frequently used to demonstrate the nature of radioactive decay?

Options :

1. ✘ Cobalt 60

2. ✔ Indium 116

3. ✘ Strontium 90

4. ✘ Calcium 45

Question Number : 154 Question Id : 9662319806 Question Type : MCQ Option Shuffling : Yes Display Question Number : Yes
Single Line Question Option : No Option Orientation : Vertical

Correct Marks : 1 Wrong Marks : 0.25

रेडियोएक्टिव क्षय की प्रकृति को प्रदर्शित करने के लिए प्रायः किस रेडियोन्यूक्लाइड का उपयोग किया जाता है?

Options :

1. ✘ कोबाल्ट 60

2. ✔ इंडियम 116

3. ✘ स्ट्रॉटियम 90

4. ✘ कैल्शियम 45

Question Number : 155 Question Id : 9662319807 Question Type : MCQ Option Shuffling : Yes Display Question Number : Yes
Single Line Question Option : No Option Orientation : Vertical

Correct Marks : 1 Wrong Marks : 0.25

Absorbed doses are expressed in units of:

Options :

1. ✘ Joule
2. ✘ Kilogram
3. ✘ Miles
4. ✔ Grays

Question Number : 155 Question Id : 9662319807 Question Type : MCQ Option Shuffling : Yes Display Question Number : Yes
Single Line Question Option : No Option Orientation : Vertical

Correct Marks : 1 Wrong Marks : 0.25

अवशोषित खुराक को निम्न इकाई में व्यक्त किया जाता है:

Options :

1. ✘ जूल
2. ✘ किलोग्राम
3. ✘ माइल
4. ✔ ग्रे

Question Number : 156 Question Id : 9662319808 Question Type : MCQ Option Shuffling : Yes Display Question Number : Yes
Single Line Question Option : No Option Orientation : Vertical

Correct Marks : 1 Wrong Marks : 0.25

The full form of ICRP is:

Options :

1. ✘ International Continuous Radioactive Process
2. ✘ International Commission on Radioactive Process
3. ✔ International Commission on Radiological Protection
4. ✘ International Committee of Radiological Protection

Question Number : 156 Question Id : 9662319808 Question Type : MCQ Option Shuffling : Yes Display Question Number : Yes
Single Line Question Option : No Option Orientation : Vertical

Correct Marks : 1 Wrong Marks : 0.25

ICRP का पूर्ण रूप है:

Options :

1. ✘ International Continuous Radioactive Process (इंटरनेशनल कंटिन्युअस रेडियोएक्टिव प्रोसेस)
2. ✘ International Commission on Radioactive Process (इंटरनेशनल कमीशन ऑन रेडियोएक्टिव प्रोसेस)
3. ✔ International Commission on Radiological Protection (इंटरनेशनल कमीशन ऑन रेडियोलॉजिकल प्रोटेक्शन)
4. ✘ International Committee of Radiological Protection (इंटरनेशनल कमिटी ऑफ रेडियोलॉजिकल प्रोटेक्शन)

Question Number : 157 Question Id : 9662319809 Question Type : MCQ Option Shuffling : Yes Display Question Number : Yes
Single Line Question Option : No Option Orientation : Vertical

Correct Marks : 1 Wrong Marks : 0.25

Scoliosis is an abnormality in the:

Options :

1. ✘ femur
2. ✔ spine
3. ✘ skull
4. ✘ eyes

Question Number : 157 Question Id : 9662319809 Question Type : MCQ Option Shuffling : Yes Display Question Number : Yes
Single Line Question Option : No Option Orientation : Vertical

Correct Marks : 1 Wrong Marks : 0.25

मेरुवक्रता (स्कोलियोसिस), _____ की एक असामान्यता है।

Options :

1. ✘ ऊर्विका (फीमर)
2. ✔ रीढ़ (स्पाइन)
3. ✘ कपाल (स्कल)
4. ✘ आंख

Question Number : 158 Question Id : 9662319810 Question Type : MCQ Option Shuffling : Yes Display Question Number : Yes
Single Line Question Option : No Option Orientation : Vertical

Correct Marks : 1 Wrong Marks : 0.25

Doppler in ultrasound is used to detect:

Options :

1. ✘ bone lesions
2. ✔ blood flow within arteries
3. ✘ muscle lesions
4. ✘ skin lesions

Question Number : 158 Question Id : 9662319810 Question Type : MCQ Option Shuffling : Yes Display Question Number : Yes
Single Line Question Option : No Option Orientation : Vertical

Correct Marks : 1 Wrong Marks : 0.25

अल्ट्रासाउंड में डॉपलर का उपयोग _____ का पता लगाने के लिए किया जाता है।

Options :

1. ✘ अस्थि ब्रण
2. ✔ धमनियों के भीतर रक्त प्रवाह
3. ✘ मांसपेशी ब्रण
4. ✘ त्वचा ब्रण

Question Number : 159 Question Id : 9662319811 Question Type : MCQ Option Shuffling : Yes Display Question Number : Yes
Single Line Question Option : No Option Orientation : Vertical

Correct Marks : 1 Wrong Marks : 0.25

Gradient coils are used in:

Options :

1. ✘ CT scans
2. ✘ X-rays
3. ✔ MRIs
4. ✘ USGs

Question Number : 159 Question Id : 9662319811 Question Type : MCQ Option Shuffling : Yes Display Question Number : Yes
Single Line Question Option : No Option Orientation : Vertical

Correct Marks : 1 Wrong Marks : 0.25

प्रवणता (ग्रेडिएंट) कॉइल का उपयोग _____ में किया जाता है।

Options :

1. ✘ सीटी (CT) स्कैन

2. ✘ एक्स-रे

3. ✔ एमआरआई (MRIs)

4. ✘ यूएसजी (USGs)

Question Number : 160 Question Id : 9662319812 Question Type : MCQ Option Shuffling : Yes Display Question Number : Yes
Single Line Question Option : No Option Orientation : Vertical

Correct Marks : 1 Wrong Marks : 0.25

The radiation weighing factor for alpha particles is:

Options :

1. ✘ 1

2. ✘ 5

3. ✘ 12

4. ✔ 20

Question Number : 160 Question Id : 9662319812 Question Type : MCQ Option Shuffling : Yes Display Question Number : Yes
Single Line Question Option : No Option Orientation : Vertical

Correct Marks : 1 Wrong Marks : 0.25

अल्फा कणों के लिए विकिरण भार कारक (radiation weighing factor) है:

Options :

1. ✘ 1

2. ✘ 5

3. ✘ 12

4. ✔ 20

Discipline4

Group Number :	9
Group Id :	966231282
Group Maximum Duration :	0
Group Minimum Duration :	0
Revisit allowed for view? :	No
Revisit allowed for edit? :	No
Break time:	0
Group Marks:	20

Revisit allowed for group Instructions? :	Yes
Maximum Instruction Time:	0
Minimum Instruction Time:	0

Discipline4

Section Id :	966231397
Section Number :	1
Section type :	Online
Mandatory or Optional:	Mandatory
Number of Questions:	20
Number of Questions to be attempted:	20
Section Marks:	20
Display Number Panel:	Yes
Group All Questions:	No

Sub-Section Number:	1
Sub-Section Id:	966231449
Question Shuffling Allowed :	Yes

Question Number : 161 Question Id : 9662319813 Question Type : MCQ Option Shuffling : Yes Display Question Number : Yes
Single Line Question Option : No Option Orientation : Vertical

Correct Marks : 1 Wrong Marks : 0.25

The full form of GSD is:

Options :

1. Genetically Significant Dose
2. Gene Source Dose
3. Gene Source Development
4. Genetically Significantly Development

Question Number : 161 Question Id : 9662319813 Question Type : MCQ Option Shuffling : Yes Display Question Number : Yes
Single Line Question Option : No Option Orientation : Vertical

Correct Marks : 1 Wrong Marks : 0.25

GSD का पूर्ण रूप है:

Options :

1. Genetically Significant Dose (जेनेटिकली सिग्निफिकेंट डोज)
2. Gene Source Dose (जीन सोर्स डोज)
3. Gene Source Development (जीन सोर्स डेवलपमेंट)

4. ✘ Genetically Significantly Development (जेनेटिकली सिग्निफिकेंटली डेवलपमेंट)

Question Number : 162 Question Id : 9662319814 Question Type : MCQ Option Shuffling : Yes Display Question Number : Yes
Single Line Question Option : No Option Orientation : Vertical

Correct Marks : 1 Wrong Marks : 0.25

The breast cancer susceptibility gene is:

Options :

1. ✘ BRCA1
2. ✘ BRCA2
3. ✘ BRCA3
4. ✔ BRCA1 and BRCA2

Question Number : 162 Question Id : 9662319814 Question Type : MCQ Option Shuffling : Yes Display Question Number : Yes
Single Line Question Option : No Option Orientation : Vertical

Correct Marks : 1 Wrong Marks : 0.25

स्तन कैंसर का सुग्राह्य जीन (susceptibility gene) है:

Options :

1. ✘ BRCA1
2. ✘ BRCA2
3. ✘ BRCA3
4. ✔ BRCA1 और BRCA2

Question Number : 163 Question Id : 9662319815 Question Type : MCQ Option Shuffling : Yes Display Question Number : Yes
Single Line Question Option : No Option Orientation : Vertical

Correct Marks : 1 Wrong Marks : 0.25

The full form of AERB is:

Options :

1. ✔ Atomic Energy Regulatory Board
2. ✘ All Emission Regulatory Board
3. ✘ Atom Effect Regulatory Board
4. ✘ Atom Emission Rule Board

Question Number : 163 Question Id : 9662319815 Question Type : MCQ Option Shuffling : Yes Display Question Number : Yes
Single Line Question Option : No Option Orientation : Vertical

Correct Marks : 1 Wrong Marks : 0.25

AERB का पूर्ण रूप है:

Options :

1. ✓ Atomic Energy Regulatory Board (एटॉमिक एनर्जी रेगुलेटरी बोर्ड)
2. ✗ All Emission Regulatory Board (ऑल एमिसन रेगुलेटरी बोर्ड)
3. ✗ Atom Effect Regulatory Board (एटम इफेक्ट रेगुलेटरी बोर्ड)
4. ✗ Atom Emission Rule Board (एटम एमिसन रूल बोर्ड)

Question Number : 164 Question Id : 9662319816 Question Type : MCQ Option Shuffling : Yes Display Question Number : Yes
Single Line Question Option : No Option Orientation : Vertical

Correct Marks : 1 Wrong Marks : 0.25

The radiation effect produced in exposed individuals during their lifetime is called:

Options :

1. ✓ somatic effect
2. ✗ genetic effect
3. ✗ fetal risk
4. ✗ deterministic effect

Question Number : 164 Question Id : 9662319816 Question Type : MCQ Option Shuffling : Yes Display Question Number : Yes
Single Line Question Option : No Option Orientation : Vertical

Correct Marks : 1 Wrong Marks : 0.25

अनावरित व्यक्तियों में उनके जीवनकाल के दौरान उत्पन्न विकिरण प्रभाव को कहा जाता है:

Options :

1. ✓ कायिक (सोमैटिक) प्रभाव
2. ✗ आनुवंशिक प्रभाव
3. ✗ भ्रूण (फेटल) जोखिम

4. ✘ नियतात्मक (डेटरमिनिस्टिक) प्रभाव

Question Number : 165 Question Id : 9662319817 Question Type : MCQ Option Shuffling : Yes Display Question Number : Yes
Single Line Question Option : No Option Orientation : Vertical
Correct Marks : 1 Wrong Marks : 0.25

The recommended effective radiation dose limit for occupational people is:

Options :

1. ✘ 150 mSv/year

2. ✘ 500 mSv/year

3. ✔ 20 mSv/year

4. ✘ 2 mSv/year

Question Number : 165 Question Id : 9662319817 Question Type : MCQ Option Shuffling : Yes Display Question Number : Yes
Single Line Question Option : No Option Orientation : Vertical
Correct Marks : 1 Wrong Marks : 0.25

व्यावसायिक लोगों के लिए अनुशंसित प्रभावी विकिरण खुराक सीमा है:

Options :

1. ✘ 150 mSv/वर्ष

2. ✘ 500 mSv/वर्ष

3. ✔ 20 mSv/वर्ष

4. ✘ 2 mSv/वर्ष

Question Number : 166 Question Id : 9662319818 Question Type : MCQ Option Shuffling : Yes Display Question Number : Yes
Single Line Question Option : No Option Orientation : Vertical
Correct Marks : 1 Wrong Marks : 0.25

TLD badge is a:

Options :

1. ✔ personal monitoring device of radiation

2. ✘ gamma radiation meter

3. ✘ electron emitter

4. ✘ positron emitter

Question Number : 166 Question Id : 9662319818 Question Type : MCQ Option Shuffling : Yes Display Question Number : Yes
Single Line Question Option : No Option Orientation : Vertical

Correct Marks : 1 Wrong Marks : 0.25

टीएलडी (TLD) बैज है:

Options :

1. ✔ विकिरण के लिए व्यक्तिगत निगरानी उपकरण

2. ✘ गामा विकिरण मापक

3. ✘ इलेक्ट्रॉन उत्सर्जक

4. ✘ पॉजिट्रॉन उत्सर्जक

Question Number : 167 Question Id : 9662319819 Question Type : MCQ Option Shuffling : Yes Display Question Number : Yes
Single Line Question Option : No Option Orientation : Vertical

Correct Marks : 1 Wrong Marks : 0.25

The biggest contributor of terrestrial radiation is:

Options :

1. ✔ Rn-222

2. ✘ U-238

3. ✘ I-121

4. ✘ Ca-60

Question Number : 167 Question Id : 9662319819 Question Type : MCQ Option Shuffling : Yes Display Question Number : Yes
Single Line Question Option : No Option Orientation : Vertical

Correct Marks : 1 Wrong Marks : 0.25

पार्थिव विकिरण में सबसे बड़ा योगदानकर्ता है:

Options :

1. ✔ Rn-222

2. ✘ U-238

3. ✘ I-121

4. ✘ Ca-60

Question Number : 168 Question Id : 9662319820 Question Type : MCQ Option Shuffling : Yes Display Question Number : Yes
Single Line Question Option : No Option Orientation : Vertical

Correct Marks : 1 Wrong Marks : 0.25

What does PSP stand for?

Options :

1. ✘ Phosphorescence Stimulated Phosphor
2. ✘ Portable Sony PlayStation
3. ✔ Photo Stimulable Phosphor
4. ✘ Photomultiplier Scanning Plate

Question Number : 168 Question Id : 9662319820 Question Type : MCQ Option Shuffling : Yes Display Question Number : Yes
Single Line Question Option : No Option Orientation : Vertical

Correct Marks : 1 Wrong Marks : 0.25

PSP का पूर्ण रूप क्या है?

Options :

1. ✘ Phosphorescence Stimulated Phosphor (फास्फोरोसेंस स्टिमुलेटेड फॉस्फर)
2. ✘ Portable Sony PlayStation (पोर्टेबल सोनी प्ले-स्टेशन)
3. ✔ Photo Stimulable Phosphor (फोटो स्टिमुलेबल फॉस्फर)
4. ✘ Photomultiplier Scanning Plate (फोटोमल्टीप्लायर स्कैनिंग प्लेट)

Question Number : 169 Question Id : 9662319821 Question Type : MCQ Option Shuffling : Yes Display Question Number : Yes
Single Line Question Option : No Option Orientation : Vertical

Correct Marks : 1 Wrong Marks : 0.25

Barium swallow is the radiography evaluation of the:

Options :

1. ✔ oesophagus
2. ✘ stomach
3. ✘ small intestines
4. ✘ large intestines

Question Number : 169 Question Id : 9662319821 Question Type : MCQ Option Shuffling : Yes Display Question Number : Yes
Single Line Question Option : No Option Orientation : Vertical

Correct Marks : 1 Wrong Marks : 0.25

बेरियम निगरण (स्वैलो), _____ का रेडियोग्राफी मूल्यांकन है:

Options :

1. ✓ ग्रासनली (इसोफेगस)
2. ✗ आमाशय
3. ✗ छोटी आंत
4. ✗ बड़ी आंत

Question Number : 170 Question Id : 9662319822 Question Type : MCQ Option Shuffling : Yes Display Question Number : Yes
Single Line Question Option : No Option Orientation : Vertical

Correct Marks : 1 Wrong Marks : 0.25

In a double contrast barium enema, which of the following is injected rectally?

Options :

1. ✗ Water and barium
2. ✗ Ionic contrast and water
3. ✓ Air and high density barium
4. ✗ Water and ionic contrast

Question Number : 170 Question Id : 9662319822 Question Type : MCQ Option Shuffling : Yes Display Question Number : Yes
Single Line Question Option : No Option Orientation : Vertical

Correct Marks : 1 Wrong Marks : 0.25

एक डबल कंट्रास्ट बेरियम एनिमा में, निम्न में से किसे मलाशय (रेक्टल) में इंजेक्ट किया जाता है?

Options :

1. ✗ जल और बेरियम
2. ✗ आयनिक कंट्रास्ट और जल
3. ✓ वायु और उच्च घनत्व बेरियम
4. ✗ जल और आयनिक कंट्रास्ट

Question Number : 171 Question Id : 9662319823 Question Type : MCQ Option Shuffling : Yes Display Question Number : Yes
Single Line Question Option : No Option Orientation : Vertical

Correct Marks : 1 Wrong Marks : 0.25

The contrast used in bronchography is:

Options :

1. dianosil aqueous
2. iohexol
3. barium sulphate
4. urografin

Question Number : 171 Question Id : 9662319823 Question Type : MCQ Option Shuffling : Yes Display Question Number : Yes
Single Line Question Option : No Option Orientation : Vertical

Correct Marks : 1 Wrong Marks : 0.25

श्वसनचित्रण (ब्रॉन्कोग्राफी) में उपयोग किया जाने वाला कंट्रास्ट है:

Options :

1. डायनोसिल एक्विवयस
2. इयोहेक्सोल
3. बेरियम सल्फेट
4. यूरोग्राफिन

Question Number : 172 Question Id : 9662319824 Question Type : MCQ Option Shuffling : Yes Display Question Number : Yes
Single Line Question Option : No Option Orientation : Vertical

Correct Marks : 1 Wrong Marks : 0.25

Myelography is the term applied for radiologic examination of the:

Options :

1. brain
2. spinal cord
3. gall bladder
4. liver

Question Number : 172 Question Id : 9662319824 Question Type : MCQ Option Shuffling : Yes Display Question Number : Yes
Single Line Question Option : No Option Orientation : Vertical

Correct Marks : 1 Wrong Marks : 0.25

'मायलोग्राफी' शब्द का प्रयोग _____ के रेडियोलॉजिकल परीक्षण के लिए किया जाता है।

Options :

1. ✘ मस्तिष्क
2. ✔ मेरुरज्जु
3. ✘ पित्ताशय
4. ✘ यकृत

Question Number : 173 Question Id : 9662319825 Question Type : MCQ Option Shuffling : Yes Display Question Number : Yes
Single Line Question Option : No Option Orientation : Vertical

Correct Marks : 1 Wrong Marks : 0.25

Townes view is:

Options :

1. ✘ submentovertical view of skull
2. ✘ sella turcica view of skull
3. ✔ fronto occipital 30° caudal view
4. ✘ optic foramina view

Question Number : 173 Question Id : 9662319825 Question Type : MCQ Option Shuffling : Yes Display Question Number : Yes
Single Line Question Option : No Option Orientation : Vertical

Correct Marks : 1 Wrong Marks : 0.25

टाउन्स दृश्य है:

Options :

1. ✘ कपाल का सबमेंटोवर्टिकल दृश्य (submentovertical view)
2. ✘ कपाल का सेला टर्सिका दृश्य (sella turcica)
3. ✔ फ्रंटो ओक्सिपिटल 30° पुच्छल दृश्य (caudal view)
4. ✘ ऑप्टिक फोरामिना (optic foramina) दृश्य

Question Number : 174 Question Id : 9662319826 Question Type : MCQ Option Shuffling : Yes Display Question Number : Yes
Single Line Question Option : No Option Orientation : Vertical

Correct Marks : 1 Wrong Marks : 0.25

Resolution of the images are measured in:

Options :

1. ✘ centimetres per second
2. ✘ cycles per second
3. ✔ line pairs per millimetre
4. ✘ line per centimetre

Question Number : 174 Question Id : 9662319826 Question Type : MCQ Option Shuffling : Yes Display Question Number : Yes
Single Line Question Option : No Option Orientation : Vertical

Correct Marks : 1 Wrong Marks : 0.25

छवियों का विभेदन (रिजॉल्यूशन) _____ में मापा जाता है।

Options :

1. ✘ सेंटीमीटर प्रति सेकंड
2. ✘ चक्र प्रति सेकंड
3. ✔ पंक्ति युग्म प्रति मिलीमीटर
4. ✘ पंक्ति प्रति सेंटीमीटर

Question Number : 175 Question Id : 9662319827 Question Type : MCQ Option Shuffling : Yes Display Question Number : Yes
Single Line Question Option : No Option Orientation : Vertical

Correct Marks : 1 Wrong Marks : 0.25

In interstitial implant the radioactive sources are inserted directly in the:

Options :

1. ✘ bone
2. ✘ organ
3. ✔ tissue
4. ✘ skin

Question Number : 175 Question Id : 9662319827 Question Type : MCQ Option Shuffling : Yes Display Question Number : Yes
Single Line Question Option : No Option Orientation : Vertical

Correct Marks : 1 Wrong Marks : 0.25

अंतराकाशी (इंटरस्टिशियल) प्रत्यारोपण में, रेडियोधर्मी स्रोतों को सीधे _____ में अंतर्निविष्ट किया जाता है।

Options :

1. ✘ हड्डी
2. ✘ अंग
3. ✔ ऊतक
4. ✘ त्वचा

Question Number : 176 Question Id : 9662319828 Question Type : MCQ Option Shuffling : Yes Display Question Number : Yes
Single Line Question Option : No Option Orientation : Vertical

Correct Marks : 1 Wrong Marks : 0.25

Intracavitary therapy is mainly used for cancer of the:

Options :

1. ✘ lungs
2. ✘ stomach
3. ✔ cervix
4. ✘ intestines

Question Number : 176 Question Id : 9662319828 Question Type : MCQ Option Shuffling : Yes Display Question Number : Yes
Single Line Question Option : No Option Orientation : Vertical

Correct Marks : 1 Wrong Marks : 0.25

इंट्राकैवेटरी थेरेपी मुख्य रूप से _____ के कैंसर में उपयोग की जाती है।

Options :

1. ✘ फेफड़ा
2. ✘ अमाशय
3. ✔ गर्भाशय ग्रीवा
4. ✘ आंत

Question Number : 177 Question Id : 9662319829 Question Type : MCQ Option Shuffling : Yes Display Question Number : Yes
Single Line Question Option : No Option Orientation : Vertical

Correct Marks : 1 Wrong Marks : 0.25

Brachytherapy sources of gold-198 is available in the form of:

Options :

1. ✘ wire
2. ✔ seeds
3. ✘ tubes
4. ✘ rods

Question Number : 177 Question Id : 9662319829 Question Type : MCQ Option Shuffling : Yes Display Question Number : Yes
Single Line Question Option : No Option Orientation : Vertical

Correct Marks : 1 Wrong Marks : 0.25

गोल्ड-198 का ब्रैकीथेरेपी स्रोत निम्न के रूप में उपलब्ध है:

Options :

1. ✘ तार
2. ✔ बीज (सीड)
3. ✘ ट्यूब
4. ✘ छड़

Question Number : 178 Question Id : 9662319830 Question Type : MCQ Option Shuffling : Yes Display Question Number : Yes
Single Line Question Option : No Option Orientation : Vertical

Correct Marks : 1 Wrong Marks : 0.25

The material which absorbs and scatters the radiation in the same way as tissue is:

Options :

1. ✘ bolus
2. ✔ phantom
3. ✘ accelerator
4. ✘ electron beam

Question Number : 178 Question Id : 9662319830 Question Type : MCQ Option Shuffling : Yes Display Question Number : Yes
Single Line Question Option : No Option Orientation : Vertical

Correct Marks : 1 Wrong Marks : 0.25

वह पदार्थ कौन सा है, जो विकिरण को उसी तरह से अवशोषित और प्रकीर्ण करता है जैसे कि ऊतक?

Options :

1. ✘ बोलस

2. ✓ फैंटम

3. ✗ त्वरक (ऐक्सेलरेटर)

4. ✗ इलेक्ट्रॉन बीम

Question Number : 179 Question Id : 9662319831 Question Type : MCQ Option Shuffling : Yes Display Question Number : Yes
Single Line Question Option : No Option Orientation : Vertical

Correct Marks : 1 Wrong Marks : 0.25

The linear accelerators are capable of producing radiation energy greater than:

Options :

1. ✓ 1MeV

2. ✗ 2MeV

3. ✗ 3MeV

4. ✗ 4MeV

Question Number : 179 Question Id : 9662319831 Question Type : MCQ Option Shuffling : Yes Display Question Number : Yes
Single Line Question Option : No Option Orientation : Vertical

Correct Marks : 1 Wrong Marks : 0.25

रेखिक त्वरक, _____ से अधिक विकिरण ऊर्जा उत्पन्न करने में सक्षम हैं।

Options :

1. ✓ 1 MeV

2. ✗ 2 MeV

3. ✗ 3 MeV

4. ✗ 4 MeV

Question Number : 180 Question Id : 9662319832 Question Type : MCQ Option Shuffling : Yes Display Question Number : Yes
Single Line Question Option : No Option Orientation : Vertical

Correct Marks : 1 Wrong Marks : 0.25

The full form of SSD is:

Options :

1. ✗ Self of Skin Direction

2. ✗ Source of Self Distance

3. ✘ Self to Source Direction

4. ✔ Source to Skin Distance

Question Number : 180 Question Id : 9662319832 Question Type : MCQ Option Shuffling : Yes Display Question Number : Yes
Single Line Question Option : No Option Orientation : Vertical

Correct Marks : 1 Wrong Marks : 0.25

SSD का पूर्ण रूप है:

Options :

1. ✘ Self of Skin Direction (सेल्फ ऑफ स्किन डायरेक्शन)

2. ✘ Source of Self Distance (सोर्स ऑफ सेल्फ डिस्टेंस)

3. ✘ Self to Source Direction (सेल्फ टू सोर्स डायरेक्शन)

4. ✔ Source to Skin Distance (सोर्स टू स्किन डिस्टेंस)

Discipline5

Group Number :	10
Group Id :	966231283
Group Maximum Duration :	0
Group Minimum Duration :	120
Revisit allowed for view? :	No
Revisit allowed for edit? :	No
Break time:	0
Group Marks:	20
Revisit allowed for group Instructions? :	Yes
Maximum Instruction Time:	0
Minimum Instruction Time:	0

Discipline5

Section Id :	966231398
Section Number :	1
Section type :	Online
Mandatory or Optional:	Mandatory
Number of Questions:	20
Number of Questions to be attempted:	20
Section Marks:	20
Display Number Panel:	Yes
Group All Questions:	No

Sub-Section Number: 1
Sub-Section Id: 966231450
Question Shuffling Allowed : Yes

Question Number : 181 Question Id : 9662319833 Question Type : MCQ Option Shuffling : Yes Display Question Number : Yes
Single Line Question Option : No Option Orientation : Vertical
Correct Marks : 1 Wrong Marks : 0.25

Half-life of Radium-226 is:

Options :

1. ✘ 17 days
2. ✘ 30 years
3. ✔ 1622 years
4. ✘ 2.7 days

Question Number : 181 Question Id : 9662319833 Question Type : MCQ Option Shuffling : Yes Display Question Number : Yes
Single Line Question Option : No Option Orientation : Vertical
Correct Marks : 1 Wrong Marks : 0.25

रेडियम-226 का अर्ध जीवनकाल है:

Options :

1. ✘ 17 दिन
2. ✘ 30 वर्ष
3. ✔ 1622 वर्ष
4. ✘ 2.7 दिन

Question Number : 182 Question Id : 9662319834 Question Type : MCQ Option Shuffling : Yes Display Question Number : Yes
Single Line Question Option : No Option Orientation : Vertical
Correct Marks : 1 Wrong Marks : 0.25

Stenvers view is for visualizing the:

Options :

1. ✘ mastoid bone
2. ✔ petrous bone
3. ✘ PNS
4. ✘ skull lateral

Question Number : 182 Question Id : 9662319834 Question Type : MCQ Option Shuffling : Yes Display Question Number : Yes
Single Line Question Option : No Option Orientation : Vertical

Correct Marks : 1 Wrong Marks : 0.25

स्टेनवर्स दृश्य से निम्न को देखा जाता है:

Options :

1. ✘ कर्णमूल (मैस्टॉइड) हड्डी
2. ✔ पेट्रस हड्डी
3. ✘ पीएनएस (PNS)
4. ✘ कपाल पार्श्व

Question Number : 183 Question Id : 9662319835 Question Type : MCQ Option Shuffling : Yes Display Question Number : Yes
Single Line Question Option : No Option Orientation : Vertical

Correct Marks : 1 Wrong Marks : 0.25

Wedge filter is also called:

Options :

1. ✘ source specification
2. ✘ exposure rate constant
3. ✔ beam modifying device
4. ✘ surface mould

Question Number : 183 Question Id : 9662319835 Question Type : MCQ Option Shuffling : Yes Display Question Number : Yes
Single Line Question Option : No Option Orientation : Vertical

Correct Marks : 1 Wrong Marks : 0.25

वेज फिल्टर को यह भी कहा जाता है:

Options :

1. ✘ स्रोत विनिर्देश
2. ✘ एक्सपोजर दर स्थिरांक
3. ✔ बीम संशोधक उपकरण
4. ✘ सरफेस मोल्ड

Question Number : 184 Question Id : 9662319836 Question Type : MCQ Option Shuffling : Yes Display Question Number : Yes
Single Line Question Option : No Option Orientation : Vertical

Correct Marks : 1 Wrong Marks : 0.25

The x-rays produced at a potential below 20KVp is called:

Options :

1. ✘ contact therapy
2. ✔ Grenz rays therapy
3. ✘ Chaoul therapy
4. ✘ Deep therapy

Question Number : 184 Question Id : 9662319836 Question Type : MCQ Option Shuffling : Yes Display Question Number : Yes
Single Line Question Option : No Option Orientation : Vertical

Correct Marks : 1 Wrong Marks : 0.25

20 KVp से कम क्षमता पर उत्पन्न एक्स-रे को कहा जाता है:

Options :

1. ✘ कॉन्टैक्ट थेरेपी
2. ✔ ग्रेन्ज-रे थेरेपी
3. ✘ चाउल थेरेपी
4. ✘ डीप थेरेपी

Question Number : 185 Question Id : 9662319837 Question Type : MCQ Option Shuffling : Yes Display Question Number : Yes
Single Line Question Option : No Option Orientation : Vertical

Correct Marks : 1 Wrong Marks : 0.25

The maximum permissible radiation dose for occupationally exposed individuals is:

Options :

1. ✔ 5 rem/year
2. ✘ 10 rem/year
3. ✘ 15 rem/year
4. ✘ 7 rem/year

Question Number : 185 Question Id : 9662319837 Question Type : MCQ Option Shuffling : Yes Display Question Number : Yes
Single Line Question Option : No Option Orientation : Vertical

Correct Marks : 1 Wrong Marks : 0.25

व्यावसायिक रूप से अनावरित व्यक्तियों के लिए अधिकतम अनुमत विकिरण खुराक है:

Options :

1. ✓ 5 rem/वर्ष
2. ✗ 10 rem/वर्ष
3. ✗ 15 rem/वर्ष
4. ✗ 7 rem/वर्ष

Question Number : 186 Question Id : 9662319838 Question Type : MCQ Option Shuffling : Yes Display Question Number : Yes Single Line Question Option : No Option Orientation : Vertical

Correct Marks : 1 Wrong Marks : 0.25

Which of the following is NOT a criterion for classification of hospitals?

Options :

1. ✗ According to type of service provided
2. ✗ According to ownership
3. ✓ According to infrastructure
4. ✗ According to the duration of stay

Question Number : 186 Question Id : 9662319838 Question Type : MCQ Option Shuffling : Yes Display Question Number : Yes Single Line Question Option : No Option Orientation : Vertical

Correct Marks : 1 Wrong Marks : 0.25

निम्नलिखित में से कौन अस्पतालों के वर्गीकरण का एक मानदंड नहीं है?

Options :

1. ✗ प्रदत्त सेवा के प्रकार के अनुसार
2. ✗ स्वामित्व के अनुसार
3. ✓ बुनियादी सुविधाओं के अनुसार
4. ✗ रहने की अवधि के अनुसार

Question Number : 187 Question Id : 9662319839 Question Type : MCQ Option Shuffling : Yes Display Question Number : Yes Single Line Question Option : No Option Orientation : Vertical

Correct Marks : 1 Wrong Marks : 0.25

Which of the following is NOT a major principle of Hospital Management?

Options :

1. ✘ Unity of command
2. ✘ Span of control
3. ✘ Delegation of authority
4. ✔ Adjustment as necessary

Question Number : 187 Question Id : 9662319839 Question Type : MCQ Option Shuffling : Yes Display Question Number : Yes
Single Line Question Option : No Option Orientation : Vertical

Correct Marks : 1 Wrong Marks : 0.25

निम्नलिखित में से कौन अस्पताल प्रबंधन का एक प्रमुख सिद्धांत नहीं है?

Options :

1. ✘ आदेश की समानता
2. ✘ नियंत्रण विस्तार
3. ✘ अधिकारों का प्रत्यायोजन
4. ✔ आवश्यकतानुसार समायोजन

Question Number : 188 Question Id : 9662319840 Question Type : MCQ Option Shuffling : Yes Display Question Number : Yes
Single Line Question Option : No Option Orientation : Vertical

Correct Marks : 1 Wrong Marks : 0.25

The records management website is maintained by the:

Options :

1. ✘ data protection officer
2. ✘ operational health record manager
3. ✘ health record manager
4. ✔ data quality manager

Question Number : 188 Question Id : 9662319840 Question Type : MCQ Option Shuffling : Yes Display Question Number : Yes
Single Line Question Option : No Option Orientation : Vertical

Correct Marks : 1 Wrong Marks : 0.25

रिकॉर्ड प्रबंधन वेबसाइट का अनुरक्षण _____ द्वारा किया जाता है।

Options :

1. ✘ डेटा संरक्षण अधिकारी
2. ✘ परिचालनगत स्वास्थ्य रिकॉर्ड प्रबंधक
3. ✘ स्वास्थ्य रिकॉर्ड प्रबंधक
4. ✔ डेटा गुणवत्ता प्रबंधक

Question Number : 189 Question Id : 9662319841 Question Type : MCQ Option Shuffling : Yes Display Question Number : Yes
Single Line Question Option : No Option Orientation : Vertical

Correct Marks : 1 Wrong Marks : 0.25

Under which category of confidential records do hard drive embedded software, CDs and DVDs feature?

Options :

1. ✘ A
2. ✘ B
3. ✘ C
4. ✔ D

Question Number : 189 Question Id : 9662319841 Question Type : MCQ Option Shuffling : Yes Display Question Number : Yes
Single Line Question Option : No Option Orientation : Vertical

Correct Marks : 1 Wrong Marks : 0.25

गोपनीय रिकॉर्डों की किस श्रेणी के तहत हार्ड ड्राइव एम्बेडेड सॉफ्टवेयर, सीडी और डीवीडी की सुविधा है?

Options :

1. ✘ A
2. ✘ B
3. ✘ C
4. ✔ D

Question Number : 190 Question Id : 9662319842 Question Type : MCQ Option Shuffling : Yes Display Question Number : Yes
Single Line Question Option : No Option Orientation : Vertical

Correct Marks : 1 Wrong Marks : 0.25

Steam sterilization was discovered in:

Options :

1. ✘ 1850

2. ✔ 1880

3. ✘ 1890

4. ✘ 1900

Question Number : 190 Question Id : 9662319842 Question Type : MCQ Option Shuffling : Yes Display Question Number : Yes
Single Line Question Option : No Option Orientation : Vertical

Correct Marks : 1 Wrong Marks : 0.25

भाप निर्जीवाणुकरण (स्टीम स्टरलाइजेशन) की खोज _____ में की गई थी।

Options :

1. ✘ 1850

2. ✔ 1880

3. ✘ 1890

4. ✘ 1900

Question Number : 191 Question Id : 9662319843 Question Type : MCQ Option Shuffling : Yes Display Question Number : Yes
Single Line Question Option : No Option Orientation : Vertical

Correct Marks : 1 Wrong Marks : 0.25

Who introduced the concept of diagnosis, prognosis, physical examination and prescription?

Options :

1. ✘ Ummem

2. ✔ Babylonian

3. ✘ Hippocrates

4. ✘ Charaka

Question Number : 191 Question Id : 9662319843 Question Type : MCQ Option Shuffling : Yes Display Question Number : Yes
Single Line Question Option : No Option Orientation : Vertical

Correct Marks : 1 Wrong Marks : 0.25

रोग निदान (डायग्नोसिस), रोग लक्षण (प्रोग्नोसिस), शारीरिक परीक्षा और प्रिस्क्रिप्शन की अवधारणा किसने पेश की?

Options :

1. ✘ उम्मेम

2. ✓ बेबीलोनियन

3. ✗ हिप्पोक्रेटीस

4. ✗ चरक

Question Number : 192 Question Id : 9662319844 Question Type : MCQ Option Shuffling : Yes Display Question Number : Yes
Single Line Question Option : No Option Orientation : Vertical

Correct Marks : 1 Wrong Marks : 0.25

Sharps including glass ampoules is disposed by means of:

Options :

1. ✗ recycling

2. ✗ landfill disposal

3. ✓ incineration

4. ✗ sterilization

Question Number : 192 Question Id : 9662319844 Question Type : MCQ Option Shuffling : Yes Display Question Number : Yes
Single Line Question Option : No Option Orientation : Vertical

Correct Marks : 1 Wrong Marks : 0.25

काँच की इंजेक्शन शीशी सहित नुकीली चीजों का निपटान _____ के माध्यम से किया जाता है।

Options :

1. ✗ पुनर्चक्रण (रीसाइक्लिंग)

2. ✗ लैंडफिल निपटान

3. ✓ भस्मीकरण (इन्सिनरेशन)

4. ✗ विसंक्रमण (स्टेरलाइजेशन)

Question Number : 193 Question Id : 9662319845 Question Type : MCQ Option Shuffling : Yes Display Question Number : Yes
Single Line Question Option : No Option Orientation : Vertical

Correct Marks : 1 Wrong Marks : 0.25

MRSA (Methicillin-resistant Staphylococcus aureus) is a:

Options :

1. ✗ virus

2. ✓ bacterium

3. ✗ fungus

4. ✗ protozoan

Question Number : 193 Question Id : 9662319845 Question Type : MCQ Option Shuffling : Yes Display Question Number : Yes
Single Line Question Option : No Option Orientation : Vertical

Correct Marks : 1 Wrong Marks : 0.25

MRSA (मेथिसिलिन प्रतिरोधी स्टेफिलोकोकस ऑरियस) है:

Options :

1. ✗ विषाणु

2. ✓ जीवाणु

3. ✗ कवक

4. ✗ प्रोटोजोआ

Question Number : 194 Question Id : 9662319846 Question Type : MCQ Option Shuffling : Yes Display Question Number : Yes
Single Line Question Option : No Option Orientation : Vertical

Correct Marks : 1 Wrong Marks : 0.25

Neonate is a term used to describe a baby:

Options :

1. ✗ requiring intensive care

2. ✗ under one year

3. ✗ under one week

4. ✓ under one month

Question Number : 194 Question Id : 9662319846 Question Type : MCQ Option Shuffling : Yes Display Question Number : Yes
Single Line Question Option : No Option Orientation : Vertical

Correct Marks : 1 Wrong Marks : 0.25

‘नवजात (नियोनेट)’ शब्द का इस्तेमाल उस शिशु के लिए किया जाता है:

Options :

1. ✗ जिसे गहन देखभाल की आवश्यकता है

2. ✘ जिसकी उम्र एक वर्ष से कम है
3. ✘ जिसकी उम्र एक सप्ताह से कम है
4. ✔ जिसकी उम्र एक महीने से कम है

Question Number : 195 Question Id : 9662319847 Question Type : MCQ Option Shuffling : Yes Display Question Number : Yes
Single Line Question Option : No Option Orientation : Vertical

Correct Marks : 1 Wrong Marks : 0.25

A hospital requires to check and understand the applicability of the standard clauses for the institution. In India, all the hospitals have been certified for:

Options :

1. ✘ ISO 9000
2. ✘ ISO 9001
3. ✔ ISO 9002
4. ✘ ISO 9004

Question Number : 195 Question Id : 9662319847 Question Type : MCQ Option Shuffling : Yes Display Question Number : Yes
Single Line Question Option : No Option Orientation : Vertical

Correct Marks : 1 Wrong Marks : 0.25

एक अस्पताल को संस्थान के मानक खंड की प्रयोज्यता की जांच करने और समझने की आवश्यकता होती है। भारत में, सभी अस्पताल _____ प्रमाणित हैं:

Options :

1. ✘ आईएसओ 9000
2. ✘ आईएसओ 9001
3. ✔ आईएसओ 9002
4. ✘ आईएसओ 9004

Question Number : 196 Question Id : 9662319848 Question Type : MCQ Option Shuffling : Yes Display Question Number : Yes
Single Line Question Option : No Option Orientation : Vertical

Correct Marks : 1 Wrong Marks : 0.25

Which of the following is a management function?

Options :

1. ✔ Planning

2. ✘ Knowledge

3. ✘ Goal

4. ✘ Selecting

Question Number : 196 Question Id : 9662319848 Question Type : MCQ Option Shuffling : Yes Display Question Number : Yes
Single Line Question Option : No Option Orientation : Vertical

Correct Marks : 1 Wrong Marks : 0.25

निम्नलिखित में से कौन एक प्रबंधन कार्य है?

Options :

1. ✔ योजना बनाना

2. ✘ ज्ञान

3. ✘ लक्ष्य (गोल)

4. ✘ चुनना

Question Number : 197 Question Id : 9662319849 Question Type : MCQ Option Shuffling : Yes Display Question Number : Yes
Single Line Question Option : No Option Orientation : Vertical

Correct Marks : 1 Wrong Marks : 0.25

With regards to patients in delirium/confusion, which of the following should NOT be done?

Options :

1. ✘ Protect them from harm

2. ✘ Never leave them unsupervised

3. ✘ Speak in a calm voice

4. ✔ Avoid giving reassurance

Question Number : 197 Question Id : 9662319849 Question Type : MCQ Option Shuffling : Yes Display Question Number : Yes
Single Line Question Option : No Option Orientation : Vertical

Correct Marks : 1 Wrong Marks : 0.25

सन्निपात(डेलिरियम)/संभ्रम के रोगियों के संबंध में, निम्नलिखित में से क्या नहीं किया जाना चाहिए?

Options :

1. ✘ उन्हें चोट लगने/क्षति पहुँचने से बचाएं

2. ✘ उन्हें कभी भी अकेला न छोड़ें
3. ✘ उनसे शांत स्वर में बोलें
4. ✔ उन्हें यकीन दिलाने से बचें

Question Number : 198 Question Id : 9662319850 Question Type : MCQ Option Shuffling : Yes Display Question Number : Yes
Single Line Question Option : No Option Orientation : Vertical

Correct Marks : 1 Wrong Marks : 0.25

Which of the following is NOT a contraindication for intravenous urography?

Options :

1. ✘ Iodine sensitivity
2. ✘ Pregnancy
3. ✘ Renal failure
4. ✔ Hypertension

Question Number : 198 Question Id : 9662319850 Question Type : MCQ Option Shuffling : Yes Display Question Number : Yes
Single Line Question Option : No Option Orientation : Vertical

Correct Marks : 1 Wrong Marks : 0.25

निम्नलिखित में से कौन सा इंटरवीनस (अंतःशिरा) यूरोग्राफी का प्रतिनिर्देश नहीं है?

Options :

1. ✘ आयोडीन की संवेदनशीलता
2. ✘ गर्भावस्था
3. ✘ गुर्दा खराब हो जाना
4. ✔ उच्च रक्तचाप (हाइपरटेंशन)

Question Number : 199 Question Id : 9662319851 Question Type : MCQ Option Shuffling : Yes Display Question Number : Yes
Single Line Question Option : No Option Orientation : Vertical

Correct Marks : 1 Wrong Marks : 0.25

Which of the following is NOT a contraindication for MRI?

Options :

1. ✘ Patients with a cardiac pacemaker

2. ✓ Patients with non-metallic clips
3. ✘ Patients with metallic prosthesis
4. ✘ Patients with a life support system

Question Number : 199 Question Id : 9662319851 Question Type : MCQ Option Shuffling : Yes Display Question Number : Yes
Single Line Question Option : No Option Orientation : Vertical

Correct Marks : 1 Wrong Marks : 0.25

निम्नलिखित में से कौन एमआरआई (MRI) का प्रतिनिर्देश नहीं है?

Options :

1. ✘ कार्डियक पेसमेकर वाले रोगी
2. ✓ नॉन-मेटलिक क्लिप वाले रोगी
3. ✘ मेटलिक प्रोस्थेसिस वाले रोगी
4. ✘ जीवन समर्थन प्रणाली वाले रोगी

Question Number : 200 Question Id : 9662319852 Question Type : MCQ Option Shuffling : Yes Display Question Number : Yes
Single Line Question Option : No Option Orientation : Vertical

Correct Marks : 1 Wrong Marks : 0.25

The formation of clots inside blood vessels is called:

Options :

1. ✘ necrosis
2. ✓ thrombosis
3. ✘ hyperplasia
4. ✘ degeneration

Question Number : 200 Question Id : 9662319852 Question Type : MCQ Option Shuffling : Yes Display Question Number : Yes
Single Line Question Option : No Option Orientation : Vertical

Correct Marks : 1 Wrong Marks : 0.25

रक्त वाहिकाओं के अंदर थक्का बनने को कहा जाता है:

Options :

1. ✘ नेक्रोसिस

2. ✓ थ्रोम्बोसिस

3. ✗ हाइपरप्लासिया

4. ✗ डिजनरेशन