

OTET

Previous Year Paper
14 Aug 2019 Paper II
Shift 3




[Grievance](#)
[View response](#)
[Logout](#)
[Create](#)

Name	[REDACTED]
Roll No	[REDACTED]
Subject	Paper 2

Paper- 2

Date- 14-Aug-2019

Shift- 3rd

QID : 601 - Adolescence is marked by development of the faculty of _____.

କିଶୋରଅବସ୍ଥା କୁ _____ ର ସାମର୍ଥ୍ୟ ର ବିକାଶ ଦ୍ୱାରା ଚିହ୍ନିତ କରାଯାଇଥାଏ।

Options:

- 1) abstract thinking
ସାମାନ୍ୟ ଚିନ୍ତା
- 2) visual imagination
ଦୃଶ୍ୟ କଳ୍ପନା
- 3) motor development
ମୋଟର ବିକାଶ
- 4) hand-eye coordination
ହାତ ସହିତ ଆଖି ର ସମନ୍ୱୟ

Correct Answer: 1) abstract thinking
ସାମାନ୍ୟ ଚିନ୍ତା

Candidate Answer: 1) abstract thinking
ସାମାନ୍ୟ ଚିନ୍ତା

QID : 602 - Based on individual differences, Jung classified people into _____ groups.

ବ୍ୟକ୍ତିଗତ ଭିନ୍ନତା ଆଧାରରେ ମାଇକେଲ ଜଙ୍ଗ ଲୋକ ମାନଙ୍କୁ _____ ଗ୍ରୁପ୍ ରେ ବର୍ଗୀକୃତ କରିଥିଲେ।

Options:

- 1) four
ଚାରି
- 2) three
ତିନି
- 3) seven
ସାତ
- 4) six
ଛଅ

Correct Answer: 2) three
ତିନି

Candidate Answer: 4) six
ଛଅ

QID : 603 - According to _____, child development occurs in a series of stages focused on different pleasure areas of the body.

_____ କ ଅନୁସାରେ ବାଲ୍ୟ ବିକାଶ ଶରୀର ର ବିଭିନ୍ନ ଆନନ୍ଦ ଭରା କ୍ଷେତ୍ର ଗୁଡ଼ିକରେ କେନ୍ଦ୍ରିତ ଚରଣ କ୍ରମ ରେ ହୋଇଥାଏ।

Options:

- 1) Albert Bandura
ଆଲବର୍ଟ ବନ୍ଦୁରା
- 2) Sigmund Freud
ସିଗମୁଣ୍ଡ ଫ୍ରେଡ୍
- 3) Erik Erikson
ଏରିକ ଏରିକ୍ସନ
- 4) Jean Piaget
ଜିନ୍ ପିଆଜେଟ୍

Correct Answer: 2) Sigmund Freud
ସିଗମୁଣ୍ଡ ଫ୍ରେଡ୍

Candidate Answer: 4) Jean Piaget
ଜିନ୍ ପିଆଜେଟ୍

QID : 604 - _____ is the period between age 12 to adulthood when people develop the ability to think about abstract concepts.

ଯେତେବେଳେ ଲୋକ ମାନେ ନିରାକାର ବସ୍ତୁର ଗୁଡ଼ିକ ବିଷୟରେ ଚିନ୍ତା କରିବାର କ୍ଷମତାକୁ ବିକଶିତ କରନ୍ତି ସେତେବେଳେ _____ ହେଉଛି ଏକ ସମୟ ଯେଉଁଥିରେ 12 ବର୍ଷ ବୟସ ରୁ ବୟସ୍କତା ଭିତରେ ଥିବା ସମୟ ଅବଧି ଅଟେ।

Options:

- 1) The Sensorimotor Stage
ସେଂସରିମୋଟର ଅବସ୍ଥା
- 2) The Preoperational Stage
ପୂର୍ବବର୍ତ୍ତୀ ଅବସ୍ଥା
- 3) The Concrete Operational Stage
କଂକ୍ରିଟ ଅପରେସନାଲ ଅବସ୍ଥା
- 4) The Formal Operational Stage
ଓପରାରିକ ଅପରେସନାଲ ଅବସ୍ଥା

Correct Answer: 4) The Formal Operational Stage
ଓପରାରିକ ଅପରେସନାଲ ଅବସ୍ଥା

Candidate Answer: 3) The Concrete Operational Stage
କଂକ୍ରିଟ ଅପରେସନାଲ ଅବସ୍ଥା

QID : 605 - _____ is the period of time between birth and age two during which an infant's knowledge of the world is limited to his or her sensory perceptions and motor activities.

_____ ଜନ୍ମ ଓ ଦୁଇ ବର୍ଷ ବୟସ ଭିତରେ ଥିବା ଅବଧି ଅଟେ, ଯେଉଁ ସମୟରେ ଦୁନିଆ ଉପରେ ଶିଶୁ ର ଜ୍ଞାନ ତାହାର ସଂବେଦନଶୀଳ ଧାରଣା ଓ ଗତି କାର୍ଯ୍ୟ ପର୍ଯ୍ୟନ୍ତ ସୀମିତ ଅଟେ।

Options:

- 1) The Sensorimotor Stage
ସେଂସରିମୋଟର ଅବସ୍ଥା
- 2) The Preoperational Stage
ପୂର୍ବବର୍ତ୍ତୀ ଅବସ୍ଥା
- 3) The Concrete Operational Stage
କଂକ୍ରିଟ ଅପରେସନାଲ ଅବସ୍ଥା
- 4) The Formal Operational Stage
ଓପିଟାରିକ ଅପରେସନାଲ ଅବସ୍ଥା

Correct Answer: 1) The Sensorimotor Stage
ସେଂସରିମୋଟର ଅବସ୍ଥା

Candidate Answer: 1) The Sensorimotor Stage
ସେଂସରିମୋଟର ଅବସ୍ଥା

QID : 606 - The transition between childhood and adulthood, a stressful period of life characterised by discernible physical, mental, emotional, social and behavioural changes is known as:

ପିଲାବେଳ ଓ କୋଶୋରଅବସ୍ଥା ଭିତରେ ପରିବର୍ତ୍ତନ, ଜୀବନର ଏକ ଚିନ୍ତାପୂର୍ଣ୍ଣ ସମୟ ଅଟେ ଯାହାକି ଶାରୀରିକ, ମାନସିକ, ସାମାଜିକ ଓ ବ୍ୟବହାରଗତ ପରିବର୍ତ୍ତନ ପାଇଁ ହୋଇଥାଏ, ତାହା _____ ରୂପରେ ଜଣାଯାଏ।

Options:

- 1) Student life
ଛାତ୍ର ଜୀବନ
- 2) Adulthood
ବୟସ୍କତା
- 3) Adolescence
କୋଶୋର ଜୀବନ
- 4) Youth
ଯୁବ

Correct Answer: 3) Adolescence
କୋଶୋର ଜୀବନ

Candidate Answer: 3) Adolescence
କୋଶୋର ଜୀବନ

QID : 607 - Who proposed the sociocultural theory of learning?

କିଏ ଶିକ୍ଷା ପାଇଁ ସମାଜସଂସ୍କୃତି ର ପ୍ରସ୍ତାବ ଦେଇଥିଲେ?

Options:

- 1) Erik Erikson
ଏରିକ ଏରିକ୍ସନ
- 2) Albert Bandura
ଆଲବର୍ଟ ବନ୍ଦୁରା
- 3) Lev Vygotsky
ଲେଭ ଭେୟାଗୋସ୍କି
- 4) Jean Piaget
ଜିନ୍ ପିଆଗେଟ୍

Correct Answer: 3) Lev Vygotsky
ଲେଭ ଭେୟାଗୋସ୍କି

Candidate Answer: 3) Lev Vygotsky
ଲେଭ ଭେୟାଗୋସ୍କି

QID : 608 - Socially, adolescence consists in shifts from dependency to _____.

ସାମାଜିକ ରୂପରେ କିଶୋରଅବସ୍ଥା ନିର୍ଭରତା ରୁ _____ ପର୍ଯ୍ୟନ୍ତ ପାଳି ରେ ହୋଇଥାଏ।

Options:

- 1) autonomy
ସ୍ୱରାଜ୍ୟ
- 2) slavery
ଗୁଲାନୀ
- 3) subservience
ଦାସତ୍ୱ
- 4) indifference
ଅନାଦର

Correct Answer: 1) autonomy
ସ୍ୱରାଜ୍ୟ

Candidate Answer: 4) indifference
ଅନାଦର

QID : 609 - _____ suggested that parents, caregivers, peers and the culture at large were responsible for developing higher order functions.

_____ ପ୍ରସ୍ତାବ ଦେଇଥିଲେ ଯେ, ମାତାପିତା, ସେବା କରୁଥିବା ବ୍ୟକ୍ତି, ସହକର୍ମୀ ଓ ବଡ଼ ସ୍ତରରେ ସଂସ୍କୃତି ଉଚ୍ଚ ଆଦେଶ କାର୍ଯ୍ୟ ଗୁଡ଼ିକୁ ବିକଶିତ କରିବା ପାଇଁ ଦାୟି ଅଟନ୍ତି।

Options:

- 1) Erik Erikson
ଏରିକ ଏରିକ୍ସନ
- 2) Albert Bandura
ଆଲବର୍ଟ ବନ୍ଦୁରା
- 3) Lev Vygotsky
ଲେଭ ଭେୟାଗୋସ୍କି
- 4) Jean Piaget
ଜିନ୍ ପିଆଗେଟ୍

Correct Answer: 3) Lev Vygotsky
ଲେଭ ଭେୟାଗୋସ୍କି


Candidate Answer: 3) Lev Vygotsky
ଲେଭ ଭେୟାଗୋସ୍କି

QID : 610 - The Government of India, in the National Youth Policy, defines adolescents as _____ years.

ଭାରତ ସରକାର ରାଷ୍ଟ୍ରୀୟ ଯୁବ ନୀତିରେ କିଶୋର ମାନଙ୍କୁ _____ ବର୍ଷ ରୂପରେ ପରିଭାଷିତ କରିଥାଏ।

Options:

- 1) 10 to 24
10 ରୁ 24
- 2) 13 to 19
13 ରୁ 19
- 3) 13 to 23
13 ରୁ 23
- 4) 12 to 16
12 ରୁ 16



Correct Answer: 2) 13 to 19
13 ରୁ 19

Candidate Answer: 2) 13 to 19
13 ରୁ 19

QID : 611 - _____ are those that occur automatically and reflexively, such as pulling your hand back from a hot stove or jerking your leg when the doctor taps on your knee.

_____ ତାହା ହୋଇଥାଏ, ଯାହାକି ସ୍ୱାଭାବିକ ରୂପରେ ଓ ପ୍ରତିବର୍ତ୍ତ ରୂପରେ ହୋଇଥାଏ, ଯଥା ନିଜ ହାତକୁ ଗରମ ଷ୍ଟୋଭ ରୁ ଚାଣି ଆଣିବା କିମ୍ବା ଡାକ୍ତର ଆପଣଙ୍କ ଆଁଠୁରେ ଟ୍ୟାପ କରିବା ସମୟରେ ଆଁଠୁ ମୋଡିବା ଇତ୍ୟାଦି।

Options:

1) Operant behaviours

ସଞ୍ଚାଳକ ବ୍ୟବହାର

2) Respondent behaviours

ପ୍ରତିକ୍ରିୟାଶୀଳ ବ୍ୟବହାର

3) Imitations

ନକଲ

4) Observations

ନିରୀକ୍ଷଣ

Correct Answer: 2) Respondent behaviours

ପ୍ରତିକ୍ରିୟାଶୀଳ ବ୍ୟବହାର

Candidate Answer: 3) Imitations

ନକଲ

QID : 612 - Asking a student to run around the school playground for coming late to school is an example of _____.

ଜଣେ ଛାତ୍ର ସ୍କୁଲ ରେ ବିଳମ୍ବ ରେ ଆସିବା ଯୋଗୁଁ ସ୍କୁଲ ର ଖେଳ ପଡ଼ିଆ ଚାରିପାଖରେ ଦୌଡ଼ିବା ପାଇଁ କୁହାଯିବା _____ ର ଏକ ଉଦାହରଣ ଅଟେ।

Options:

1) negative punishment

ନକାରାତ୍ମକ ଦଣ୍ଡ

2) positive punishment

ସକାରାତ୍ମକ ଦଣ୍ଡ

3) negative reinforcement

ନକାରାତ୍ମକ ପୋଷଣ

4) positive reinforcement

ସକାରାତ୍ମକ ପୋଷଣ

Correct Answer: 2) positive punishment

ସକାରାତ୍ମକ ଦଣ୍ଡ

Candidate Answer: 4) positive reinforcement

ସକାରାତ୍ମକ ପୋଷଣ

QID : 613 - _____ is based on the assumption that all learning occurs through interactions with the environment.

_____ ଏହି ଧାରଣା ଉପରେ ଆଧାରିତ ଯେ ସମସ୍ତ ଶିକ୍ଷଣ ବାତାବରଣ କଥାବାର୍ତ୍ତା ମାଧ୍ୟମରେ ହୋଇଥାଏ।

Options:

- 1) Behaviourism
ଆଚରଣ
- 2) Constructivism
ରଚନାବାଦ
- 3) Cognitivism
ବୋଧଶକ୍ତିବାଦ
- 4) Humanism
ମାନବବାଦ

Correct Answer: 1) Behaviourism
ଆଚରଣ

Candidate Answer: 1) Behaviourism
ଆଚରଣ

QID : 614 - Unexpected academic under-achievement, or achievement which is maintained only by unusually high levels of effort and support given a student's age, schooling, and level of intelligence are called:

ଉପଲକ୍ଷି ଅନ୍ତର୍ଗତ ଅପ୍ରତ୍ୟାଶିତ ଶିକ୍ଷା କିମ୍ବା ଉପଲକ୍ଷି ଯାହାକି କେବଳ ଛାତ୍ରର ବୟସ, ସ୍କୁଲ ରେ ହେଉଥିବା ଶିକ୍ଷା ଓ ବୁଦ୍ଧିମତା ସ୍ତରରେ ଦେଖି ଅସାମାନ୍ୟ ରୂପରେ ଉଚ୍ଚ ସ୍ତରରେ ପ୍ରଦେଖ୍ୟ ଓ ସମର୍ଥନ ଦ୍ୱାରା ବଜାୟ ରଖିବାକୁ _____ କୁହାଯାଇଥାଏ।

Options:

- 1) Neural discomfort
ସ୍ନାୟୁ ସମ୍ବନ୍ଧୀୟ ଅସୁବିଧା
- 2) Subject failure
ବିଷୟର ବିଫଳତା
- 3) Systemic failure
ପ୍ରଣାଳୀଗତ ବିଫଳତା
- 4) Learning disabilities
ଶିକ୍ଷା ଅସମର୍ଥତା

Correct Answer: 4) Learning disabilities
ଶିକ୍ଷା ଅସମର୍ଥତା

Candidate Answer: 4) Learning disabilities
ଶିକ୍ଷା ଅସମର୍ଥତା

QID : 615 - A disorder which is usually characterized by a significant discrepancy between higher verbal skills and weaker motor, visual-spatial and social skills:

ଏକ ବିକାର ଯାହାକି ସାଧାରଣତଃ ଉଚ୍ଚ ବୈଖିକ କୌଶଳ ଓ ଦୁର୍ବଳ ମୋଟର, ଦୃଶ୍ୟ-ସ୍ଥାନିକ ଓ ସାମାଜିକ କୌଶଳ ଭିତରେ ଏକ ମହତ୍ତ୍ୱପୂର୍ଣ୍ଣ ଭିନ୍ନତା ର ବିଶେଷତ୍ୱ :

Options:

1) Attention-deficit/hyperactivity disorder

ଧାନ ଅଭାବ / ସକ୍ରିୟତା ବିକାର

2) Non-Verbal Learning Disabilities

ବିନା କହି ଶିଖିବାରେ ଅକ୍ଷମତା

3) Central Auditory Processing Disorder (CAPD)

କେନ୍ଦ୍ରୀୟ ଶ୍ରବଣ ପ୍ରୋସେସିଂ ବିକାର (CAPD)

4) Language Processing Disorder

ଭାଷା ପ୍ରକ୍ରିୟାକରଣ ବିକାର

Correct Answer: 2) Non-Verbal Learning Disabilities

ବିନା କହି ଶିଖିବାରେ ଅକ୍ଷମତା

Candidate Answer: 3) Central Auditory Processing Disorder (CAPD)

କେନ୍ଦ୍ରୀୟ ଶ୍ରବଣ ପ୍ରୋସେସିଂ ବିକାର (CAPD)

QID : 616 - According to Bandura's research, which one is **NOT** a factor that increases the likelihood that a behaviour will be imitated?

ବନ୍ଧୁରାଙ୍କର ଅନୁସନ୍ଧାନ ଅନୁସାରେ, ବ୍ୟବହାରର ନକଲ କରାଯିବାର ସମ୍ଭାବନା ବଢ଼ିଯିବା ପାଇଁ ନିମ୍ନରେ ଦିଆଯାଇଥିବା ମଧ୍ୟରୁ କେଉଁଟି ଏକ କାରକ ନୁହେଁ?

Options:

1) When you have been rewarded for imitating the behaviour in the past

ଯେତେବେଳେ ଆପଣଙ୍କୁ ଅତୀତରେ ବ୍ୟବହାର ର ନକଲ କରିଥିବା ପାଇଁ ପୁରସ୍କୃତ କରାଯାଇଥିଲା

2) When we lack confidence in our own knowledge or abilities

ଯେତେବେଳେ ଆମ ନିଜ ଭିତରେ ଜ୍ଞାନ କିମ୍ବା କ୍ଷମତା ରେ ଆତ୍ମବିଶ୍ୱାସ ର ଅଭାବ ହୋଇଥିଲା

3) People who admire us or who are subordinate to us in social status

ଯେଉଁ ଲୋକ ମାନେ ଆମର ପ୍ରସଂଶା କରୁଥିଲେ କିମ୍ବା ଯେଉଁ ମାନେ ସାମାଜିକ ସ୍ଥିତିରେ ଆମର ଅଧିନସ୍ଥ ଥିଲେ

4) When the situation is confusing, ambiguous, or unfamiliar

ଯେତେବେଳେ ସ୍ଥିତି ଭ୍ରାମକ, ଅସ୍ପଷ୍ଟ କିମ୍ବା ଅପରିଚିତ ହୋଇଥିବ

Correct Answer: 3) People who admire us or who are subordinate to us in social status

ଯେଉଁ ଲୋକ ମାନେ ଆମର ପ୍ରସଂଶା କରୁଥିଲେ କିମ୍ବା ଯେଉଁ ମାନେ ସାମାଜିକ ସ୍ଥିତିରେ ଆମର ଅଧିନସ୍ଥ ଥିଲେ

Candidate Answer: 3) People who admire us or who are subordinate to us in social status

ଯେଉଁ ଲୋକ ମାନେ ଆମର ପ୍ରସଂଶା କରୁଥିଲେ କିମ୍ବା ଯେଉଁ ମାନେ ସାମାଜିକ ସ୍ଥିତିରେ ଆମର ଅଧିନସ୍ଥ ଥିଲେ

QID : 617 - A child watches his mother folding the laundry. He later picks up some clothing and imitates folding the clothes. This is an example of _____.

ଗୋଟିଏ ପିଲା ନିଜର ମା'ଙ୍କୁ କପଡ଼ା ଭାଙ୍ଗୁଥିବାର ଦେଖିଲା। କିଛି ସମୟରେ ସେ କିଛି କପଡ଼ା କୁ ଉଠେଇ ଭାଙ୍ଗିବାର ନକଲ କରିଲା। ଏହା _____ ର ଏକ ଉଦାହରଣ ଅଟେ।

Options:

- 1) discovery learning
ଅନୁସନ୍ଧାନ ଜନିତ ଶିକ୍ଷା
- 2) intuitive learning
ସହଜ ଜ୍ଞାନ ମୁକ୍ତ ଶିକ୍ଷା
- 3) observational learning
ନିରୀକ୍ଷଣମୁକ୍ତ ଶିକ୍ଷା
- 4) classical conditioning
କ୍ଲାସିକାଲ ଶିକ୍ଷା

Correct Answer: 3) observational learning
ନିରୀକ୍ଷଣମୁକ୍ତ ଶିକ୍ଷା

Candidate Answer: 3) observational learning
ନିରୀକ୍ଷଣମୁକ୍ତ ଶିକ୍ଷା

QID : 618 - Who proposed the theory of Trial and Error Learning?

ଗ୍ରୀସଲ ଓ ଏରର ଶିକ୍ଷାର ସିଦ୍ଧାନ୍ତ ର ପ୍ରସ୍ତାବ କିଏ ଦେଇଥିଲେ?

Options:

- 1) Alfred Bandura
ଆଲଫ୍ରେଡ୍ ବନ୍ଦୁରା
- 2) Jean Piaget
ଜିନ୍ ପିଆଜେଟ୍
- 3) B. F. Skinner
ବି. ଏଫ୍. ସ୍କିନେର୍
- 4) E. L. Thorndike
ଇ. ଏଲ. ଥୋରଣ୍ଡିକେ

Correct Answer: 4) E. L. Thorndike
ଇ. ଏଲ. ଥୋରଣ୍ଡିକେ

Candidate Answer: 4) E. L. Thorndike
ଇ. ଏଲ. ଥୋରଣ୍ଡିକେ

QID : 619 - _____ indicates that in any situation of learning, people are actively engaged in making sense of the situation – the frame, objects, relationships – drawing on their history of similar situations and on available cultural resources.

_____ ସଂକେତ ଦେଇଥାଏ ଯେ, ଶିକ୍ଷାର କୌଣସି ମଧ୍ୟ ସ୍ଥିତିରେ - ଫ୍ରେମ୍, ବସ୍ତୁ, ସମ୍ପର୍କ - ସମାନ ପରିସ୍ଥିତି ଗୁଡ଼ିକରେ ନିଜର ଇତିହାସ ଉପରେ ଧ୍ୟାନ ଆକର୍ଷଣ ଓ ଉପଲବ୍ଧ ସାଂସ୍କୃତିକ ସମ୍ବଳ ଉପରେ ଲୋକ ମାନେ ସକ୍ରିୟ ରୂପରେ ସ୍ଥିତି ରେ ବୁଝାମଣାକୁ ବଜାୟ ରଖିବାରେ ଲାଗିଥାନ୍ତି।

Options:

- 1) Learning as construction
ନିର୍ମାଣ ରୂପରେ ଶିକ୍ଷା
- 2) Learning as meaning making
ଅର୍ଥ ବନାଇବା ରୂପରେ ଶିକ୍ଷା
- 3) Rote learning
ରଚନା ଶିକ୍ଷା
- 4) Formative assessment
ରଚନାତ୍ମକ ମୂଲ୍ୟାଙ୍କନ

Correct Answer: 2) Learning as meaning making
ଅର୍ଥ ବନାଇବା ରୂପରେ ଶିକ୍ଷା


Candidate Answer: 4) Formative assessment
ରଚନାତ୍ମକ ମୂଲ୍ୟାଙ୍କନ

QID : 620 - According to which approach "the role of the learner is conceived as one of building and transforming knowledge"?

କେଉଁ ଦୃଷ୍ଟିକୋଣ ଅନୁସାରେ "ଶିକ୍ଷାର୍ଥୀଙ୍କର ଭୂମିକା ର ନିର୍ମାଣ ଓ ଜ୍ଞାନ କୁ ବଦଳାଇବା ମଧ୍ୟରୁ ଗୋଟିଏ ରୂପ ବିଷୟରେ କଳ୍ପନା କରାଯାଇଥିଲା"?

Options:

- 1) Humanist
ମାନବବାଦୀ
- 2) Cognitivist
ଅବଗତିବାଦୀ
- 3) Behaviourist
ବ୍ୟାବହାରବାଦୀ
- 4) Constructivist
ରଚନାବାଦୀ



Correct Answer: 4) Constructivist
ରଚନାବାଦୀ

Candidate Answer: 1) Humanist
ମାନବବାଦୀ

QID : 621 - Who popularized the project method of teaching?

କିଏ ଶିକ୍ଷା ର ପ୍ରୋଜେକ୍ଟ ବିଧି କୁ ଲୋକପ୍ରିୟ ବନେଇଥିଲେ?

Options:

- 1) William Kilpatrick
ଉଇଲିୟମ କିଲପ୍ୟାଟ୍ରିକ୍
- 2) John Dewey
ଜନ୍ ଦିୱେ
- 3) Dillenbourg
ଡିଲେନବର୍ଗ
- 4) De Vries and Slavi
ଡି ଭ୍ରାଇଭ୍ ଓ ସ୍ଲାଭି

Correct Answer: 1) William Kilpatrick
ଉଇଲିୟମ କିଲପ୍ୟାଟ୍ରିକ୍


Candidate Answer: 1) William Kilpatrick
ଉଇଲିୟମ କିଲପ୍ୟାଟ୍ରିକ୍

QID : 622 - _____ is a list of planned learning experiences offered to the students under the direction of the school.

_____ ସ୍କୁଲ ର ନିର୍ଦ୍ଦେଶନ ରେ ଛାତ୍ର ମାନଙ୍କୁ ଦିଆଯାଇଥିବା ଯୋଜନାବଦ୍ଧ ଶିକ୍ଷଣ ଅନୁଭବର ଏକ ସୂଚୀ ଅଟେ?

Options:

- 1) Learning objective
ଶିକ୍ଷା ଉଦ୍ଦେଶ୍ୟ
- 2) Learning outcome
ଅଧ୍ୟୟନ ପରିଣାମ
- 3) Curriculum
ପାଠ୍ୟସୂଚୀ
- 4) Syllabus
ପାଠ୍ୟକ୍ରମ



Correct Answer: 3) Curriculum
ପାଠ୍ୟସୂଚୀ

Candidate Answer: 3) Curriculum
ପାଠ୍ୟସୂଚୀ

QID : 623 - An _____ is designed to determine a student's potential for success in a certain area to help them determine which types of career they might be best suited for.

ଏକ _____ କୁ ଏକ ନିର୍ଦ୍ଦିଷ୍ଟ କ୍ଷେତ୍ର ରେ ସଫଳତା ପାଇଁ ଏକ ଛାତ୍ର ର କ୍ଷମତା କୁ ନିର୍ଦ୍ଧାରଣ କରିବାରେ ସାହାଯ୍ୟ କରିବା ପାଇଁ ଡିଜାଇନ କରାଯାଇଥିଲା, ଯାହା ପାଇଁ ଏହା ନିର୍ଦ୍ଧାରିତ କରାଯାଇପାରିବ ଯେ କେଉଁ ପ୍ରକାରର କ୍ୟାରିଅର ସବୁଠାରୁ ଉପଯୁକ୍ତ ହୋଇପାରେ।

Options:

1) achievement test

ଉପଲବ୍ଧି ପରୀକ୍ଷା

2) aptitude test

ବ୍ୟବହାର ପରୀକ୍ଷା

3) intelligence test

ବୁଦ୍ଧିମତାର ପରୀକ୍ଷା

4) auditory test

ଶ୍ରବଣ ପରୀକ୍ଷା

Correct Answer: 2) aptitude test

ବ୍ୟବହାର ପରୀକ୍ଷା

Candidate Answer: 3) intelligence test

ବୁଦ୍ଧିମତାର ପରୀକ୍ଷା

QID : 624 - In which one of these approaches, students receive information transmitted from teachers or other sources of information and memorise them?

ନିମ୍ନରେ ଦିଆଯାଇଥିବା ମଧ୍ୟରୁ କେଉଁ ଦୃଷ୍ଟିକୋଣ, ଛାତ୍ର ମାନେ ଶିକ୍ଷକ କିମ୍ବା ଅନ୍ୟାନ୍ୟ ସ୍ରୋତ ଠାରୁ ପଠାଯାଇଥିବା ସୂଚନା ଗୁଡ଼ିକୁ ପ୍ରାପ୍ତ କରିଥାନ୍ତି ଓ ସେମାନଙ୍କୁ ମନେ ରଖିଥାନ୍ତି?

Options:

1) Teacher-centred approach

ଶିକ୍ଷକ କେନ୍ଦ୍ରିତ ଦୃଷ୍ଟିକୋଣ

2) Learner-centred approach

ଶିକ୍ଷାର୍ଥୀ କେନ୍ଦ୍ରିତ ଦୃଷ୍ଟିକୋଣ

3) Subject-centred approach

ବସ୍ତୁ କେନ୍ଦ୍ରିତ ଦୃଷ୍ଟିକୋଣ

4) Learning-centred approach

ଶିକ୍ଷା କେନ୍ଦ୍ରିତ ଦୃଷ୍ଟିକୋଣ

Correct Answer: 1) Teacher-centred approach

ଶିକ୍ଷକ କେନ୍ଦ୍ରିତ ଦୃଷ୍ଟିକୋଣ

Candidate Answer: 3) Subject-centred approach

ବସ୍ତୁ କେନ୍ଦ୍ରିତ ଦୃଷ୍ଟିକୋଣ

QID : 625 - In which one of these approaches, students learn through experiences and reflection on learning tasks make meaning and construct knowledge ,thereby gaining conceptual clarity?

ନିମ୍ନଲିଖିତ ମଧ୍ୟରୁ କେଉଁ ଦୃଷ୍ଟିକୋଣ ମଧ୍ୟରୁ ଗୋଟିଏ, ଛାତ୍ର ମାନେ ଶିଖିବା କାର୍ଯ୍ୟ ଗୁଡ଼ିକର ଅନୁଭବ ଓ ପ୍ରତିବିନ୍ୟ ମାଧ୍ୟମରେ ଶିଖିଥାଆନ୍ତି; ଅର୍ଥ ବାହାର କରିଥାଆନ୍ତି ଓ ଜ୍ଞାନ ନିର୍ମାଣ କରିଥାଆନ୍ତି, ଯାହାଦ୍ୱାରା ସ୍ପଷ୍ଟତା ପ୍ରାପ୍ତ ହୋଇଥାଏ ?

Options:

1) Teacher-centred approach

ଶିକ୍ଷକ କେନ୍ଦ୍ରିତ ଦୃଷ୍ଟିକୋଣ

2) Learner-centred approach

ଶିକ୍ଷାର୍ଥୀ କେନ୍ଦ୍ରିତ ଦୃଷ୍ଟିକୋଣ

3) Subject-centred approach

ବସ୍ତୁ କେନ୍ଦ୍ରିତ ଦୃଷ୍ଟିକୋଣ

4) Learning-centred approach

ଶିକ୍ଷା କେନ୍ଦ୍ରିତ ଦୃଷ୍ଟିକୋଣ

Correct Answer: 2) Learner-centred approach

ଶିକ୍ଷାର୍ଥୀ କେନ୍ଦ୍ରିତ ଦୃଷ୍ଟିକୋଣ

Candidate Answer: 3) Subject-centred approach

ବସ୍ତୁ କେନ୍ଦ୍ରିତ ଦୃଷ୍ଟିକୋଣ

QID : 626 - _____ is a democratic method involving student participation to consider various facts about the topic under consideration, which stimulates students' thinking process to analyse and present their ideas and facts clearly and fluently.

_____ ଏକ ଲୋକତାନ୍ତ୍ରିକ ଧାରା ଅଟେ ଯେଉଁଥିରେ ବିଚାରଧୁନ ବିଷୟ ବିଷୟରେ ବିଭିନ୍ନ ତଥ୍ୟ ଉପରେ ବିଚାର କରିବା ପାଇଁ ଛାତ୍ର ମାନଙ୍କର ଭାଗୀଦାରୀ ସାମିଲ ଅଟେ, ଯାହାକି ଛାତ୍ର ମାନଙ୍କର ବିଚାର ପ୍ରକ୍ରିୟା ର ବିଶ୍ଳେଷଣ କରିବା ଓ ତାଙ୍କର ବିଚାର ଓ ତଥ୍ୟ ଗୁଡ଼ିକୁ ସ୍ପଷ୍ଟ ଓ ଭଲ ଭାବରେ ପ୍ରଦର୍ଶନ କରିବା ପାଇଁ ଉତ୍ତେଜିତ କରିଥାଏ।

Options:

1) Demonstration

ପ୍ରଦର୍ଶନ

2) Group Discussion

ସମୂହ ରେ ଆଲୋଚନା

3) Seminar

ସେମିନାର

4) Lecture

ବ୍ୟାଖ୍ୟା

Correct Answer: 2) Group Discussion

ସମୂହ ରେ ଆଲୋଚନା

Candidate Answer: 3) Seminar

ସେମିନାର

QID : 627 - _____ is a student-centred method of teaching involving spontaneous acting of roles in the context of clearly defined social situation(s) by two or more persons for subsequent discussions by the whole class.

_____ ସଂପୂର୍ଣ୍ଣ ଭାବରେ ଆଲୋଚନା ପାଇଁ ଦୁଇ କିମ୍ବା ଏକାଧିକ ବ୍ୟକ୍ତିଙ୍କ ଦ୍ୱାରା ସ୍ପଷ୍ଟ ରୂପରେ ପରିଭାଷିତ ସାମାଜିକ ସ୍ଥିତି ସମ୍ବନ୍ଧରେ ଭୂମିକା ଗୁଡ଼ିକର ସରଳ କାର୍ଯ୍ୟକାରୀ ସହିତ ସାମିଲ ଥିବା ଶିକ୍ଷଣ ର ଏକ ଛାତ୍ର କେନ୍ଦ୍ରିତ ଧାରା ଅଟେ।

Options:

- 1) Symposium
ବିଚାର ଗୋଷ୍ଠୀ
- 2) Seminar
ସେମିନାର
- 3) Role Play
ଭୂମିକା ଘେ
- 4) Group Discussion
ସମୂହ ରେ ଆଲୋଚନା

Correct Answer: 3) Role Play

ଭୂମିକା ଘେ

Candidate Answer: 4) Group Discussion

ସମୂହ ରେ ଆଲୋଚନା

QID : 628 - In a/an_____ curriculum, learner is placed in the natural setting of the community.

ଏକ _____ ପାଠ୍ୟକ୍ରମ ରେ ଶିଷ୍ଟୁଥିବା ବ୍ୟକ୍ତି ସମାଜ ର ପ୍ରାକୃତିକ ସେଟିଂ ରେ ରଖାଯାଇଥାଏ।

Options:

- 1) competence-based curriculum
କ୍ଷମତା ଆଧାରିତ ପାଠ୍ୟକ୍ରମ
- 2) experience-based curriculum
ଅନୁଭବ ଆଧାରିତ ପାଠ୍ୟକ୍ରମ
- 3) subject-oriented curriculum
ବିଷୟ ଆଧାରିତ ପାଠ୍ୟକ୍ରମ
- 4) learner-centred curriculum
ଶିକ୍ଷାର୍ଥୀ କେନ୍ଦ୍ରିତ ପାଠ୍ୟକ୍ରମ

Correct Answer: 2) experience-based curriculum

ଅନୁଭବ ଆଧାରିତ ପାଠ୍ୟକ୍ରମ

Candidate Answer: 1) competence-based curriculum

କ୍ଷମତା ଆଧାରିତ ପାଠ୍ୟକ୍ରମ

QID : 629 - When a teacher constantly makes decisions about teaching materials and methods, based on a number of factors which include the subject matter to be covered, the needs of the students and the overall goals to be achieved, the teacher performs a role as a/an:

ବିଷୟ ବସ୍ତୁ କୁ ସାମିଲ କରାଯିବାକୁ ଥିବା ଅନେକ କାରକ ଗୁଡ଼ିକ ଆଧାରରେ ଯେତେବେଳେ ଜଣେ ଶିକ୍ଷକ ଶିକ୍ଷଣ ସାମଗ୍ରୀ ଓ ବିଧି ବିଷୟରେ କ୍ରମାଗତ ଭାବରେ ନିର୍ଣ୍ଣୟ ନିଅନ୍ତି, ତେବେ ଛାତ୍ର ମାନଙ୍କର ଆବଶ୍ୟକ ଓ ହାସିଲ କରିବାକୁ ଥିବା ସମଗ୍ର ଲକ୍ଷ୍ୟ ପାଇଁ ଶିକ୍ଷକ ଜଣେ _____ ଭାବରେ ଭୂମିକା ବହନ କରିଥାନ୍ତି।

Options:

- 1) Motivator
ପ୍ରେରକ
- 2) Instructional Expert
ଅନୁଦେଶାତ୍ମକ ବିଶେଷଜ୍ଞ
- 3) Facilitator
ସୂଚଧାର
- 4) Manager
ପ୍ରବନ୍ଧକ

Correct Answer: 2) Instructional Expert
ଅନୁଦେଶାତ୍ମକ ବିଶେଷଜ୍ଞ


Candidate Answer: 3) Facilitator
ସୂଚଧାର

QID : 630 - _____ mode of learning is activity based, where the learner learns as a result of action process.

ଶିଖିବା ର _____ ବିଧି କାର୍ଯ୍ୟ ଆଧାରିତ ଅଟେ, ଯେଠାରେ ଶିଖୁଥିବା ବ୍ୟକ୍ତି କାର୍ଯ୍ୟପ୍ରକ୍ରିୟାର ଫଳାଫଳ ସ୍ୱରୂପ ଶିଖିଥାଏ।

Options:

- 1) Enactive
ନିୟମ ନିର୍ମାଣ ସମ୍ବନ୍ଧୀୟ
- 2) Iconic
ଆଲୋଚନା
- 3) Symbolic
ସାଙ୍କେତିକ
- 4) Interactive
ସମ୍ବାଦାତ୍ମକ



Correct Answer: 1) Enactive
ନିୟମ ନିର୍ମାଣ ସମ୍ବନ୍ଧୀୟ

Candidate Answer: 1) Enactive
ନିୟମ ନିର୍ମାଣ ସମ୍ବନ୍ଧୀୟ

QID : 631 - କେଉଁ ବ୍ୟବସ୍ଥା ଉଚ୍ଚ ପ୍ରାଥମିକ ବିଦ୍ୟାର୍ଥୀମାନଙ୍କ ପାଇଁ ଅଧିକ ବାଞ୍ଛନୀୟ? i) ଶିଖୁଟି ଆଲୋଚନା ବିଷୟକୁ କିପରି ଶିଖୁଛି ତା ଉପରେ ଧ୍ୟାନ ଦିଅନ୍ତୁ ii) ଶିଖୁଟି ଆଲୋଚନା ବିଷୟ ସମ୍ପର୍କରେ କେତେ ଅଧିକ ଜାଣିଛି।

Options:

- 1) କେବଳ i.)
- 2) କେବଳ ii)
- 3) ଉଭୟ i) ଓ ii)
- 4) ଏହି ବ୍ୟବସ୍ଥାଗୁଡ଼ିକ ପ୍ରାଥମିକ ସ୍ତର ପାଇଁ ଉଦ୍ଦିଷ୍ଟ।

Correct Answer: 1) କେବଳ i.)

Candidate Answer: 2) କେବଳ ii)

QID : 632 - ଜଣେ ବିଦ୍ୟାର୍ଥୀ ଶୁଣିଥିବା କଥା ବୁଝିପାରିବାକୁ ସକ୍ଷମ କି ନୁହେଁ, ତାହା ଯାଞ୍ଚ କରିବା ପାଇଁ ନିମ୍ନୋକ୍ତ ମଧ୍ୟରୁ କେଉଁଟି ଏକ ଉତ୍ତମ ଉପାୟ ଭାବରେ ପରିଗଣିତ?

Options:

- 1) କ୍ଲୋଜ୍ ଏକ୍ସର୍ସାଇଜ୍
- 2) କ୍ଲୋଜ୍ ଇନାକ୍ସନ୍
- 3) ପର୍ଯ୍ୟବେକ୍ଷଣ
- 4) ପର୍ଯ୍ୟାଲୋଚନା

Correct Answer: 1) କ୍ଲୋଜ୍ ଏକ୍ସର୍ସାଇଜ୍

Candidate Answer: 3) ପର୍ଯ୍ୟବେକ୍ଷଣ

QID : 633 - ଭାଷା ଅନୁବାଦକ ନିଯୁକ୍ତ କରିବା ବେଳେ, _____ ଅତ୍ୟନ୍ତ ପ୍ରୟୋଜନୀୟ ଭାବରେ ପରିଗଣିତ।

Options:

- 1) ସିରିଜେନ୍ସ୍ ଭାଷା ସିଦ୍ଧାନ୍ତ
- 2) ନେଟିଭ୍ ସିକର୍ ସିଦ୍ଧାନ୍ତ
- 3) ସିରିଜେନ୍ସ୍ ସିଦ୍ଧାନ୍ତ
- 4) ଉପରୋକ୍ତ ସମସ୍ତ ବିକଳ୍ପ

Correct Answer: 2) ନେଟିଭ୍ ସିକର୍ ସିଦ୍ଧାନ୍ତ

Candidate Answer: 4) ଉପରୋକ୍ତ ସମସ୍ତ ବିକଳ୍ପ

QID : 634 - ଏକ୍ସଟେନ୍ସିଭ୍ ରିଡିଂ ଦ୍ଵାରା _____ ଏରିଆ କଭର୍ ହୋଇଥାଏ, ଯେତେବେଳେ କି ଇଣ୍ଟେନ୍ସିଭ୍ ରିଡିଂ ଦ୍ଵାରା _____ ଏରିଆ କଭର୍ ହୋଇଥାଏ।

Options:

- 1) ଲାର୍ଜର୍, ନ୍ୟାରୋ
- 2) ନ୍ୟାରୋ, ଲାର୍ଜର୍
- 3) ଛୋଟ, ଲମ୍ବା
- 4) ଲମ୍ବ, ବ୍ରୋଡର୍

Correct Answer: 1) ଲାର୍ଜର୍, ନ୍ୟାରୋ

Candidate Answer: 1) ଲାର୍ଜର୍, ନ୍ୟାରୋ

QID : 635 - ବିଦେଶୀ ଭାଷା ଶ୍ରେଣୀରେ ଅଧିକାଂଶ ସମୟ _____ ରିଡିଂ ବିଷୟରେ କୁହାଯାଇଥାଏ।

Options:

- 1) କମ୍ପ୍ରେହେନ୍ସିଭ୍
- 2) ପରଭାସିଭ୍
- 3) ଏକ୍ସଟେନ୍ସିଭ୍
- 4) ଇଣ୍ଟେନ୍ସିଭ୍

Correct Answer: 4) ଇଣ୍ଟେନ୍ସିଭ୍**Candidate Answer: 3) ଏକ୍ସଟେନ୍ସିଭ୍****QID : 636 - _____** ସାହାଯ୍ୟରେ ଲେଖକ ଟେକ୍ସଟ୍ ମଧ୍ୟରେ ତଥ୍ୟକୁ ଅର୍ଗାନାଇଜ୍ କରିଥାଏ।**Options:**

- 1) ଟେକ୍ସଟ୍ ଇନ୍‌ଫର୍ମେଶନ୍
- 2) ଟେକ୍ସଟ୍ ସ୍ଟ୍ରକ୍ଚର
- 3) ପ୍ରେଜିଂ
- 4) କଣ୍ଟେଣ୍ଟ ଡେଭେଲପମେଣ୍ଟ

Correct Answer: 2) ଟେକ୍ସଟ୍ ସ୍ଟ୍ରକ୍ଚର**Candidate Answer: 2) ଟେକ୍ସଟ୍ ସ୍ଟ୍ରକ୍ଚର****QID : 637 - ମୌଖିକ ଉପସ୍ଥାପନା କିମ୍ବା ପ୍ରଦର୍ଶନ ରେ ନିମ୍ନୋକ୍ତ ମଧ୍ୟରୁ କେଉଁଟିକୁ ଅନ୍ତର୍ଭୁକ୍ତ କରିହେବ?****Options:**

- 1) ସାକ୍ଷାତକାର
- 2) ଚରିତ୍ରାଭିନୟ
- 3) ପାଠ୍ୟର ଭାବନୁବାଦ
- 4) ଉପରୋକ୍ତ ସମସ୍ତ ବିକଳ୍ପ

Correct Answer: 4) ଉପରୋକ୍ତ ସମସ୍ତ ବିକଳ୍ପ**Candidate Answer: 4) ଉପରୋକ୍ତ ସମସ୍ତ ବିକଳ୍ପ****QID : 638 - ସୂଚନାଗ୍ରାମୀଣ ଏବଂ ସଂରଚନାତ୍ମକ ଲେଖିବା କାର୍ଯ୍ୟ, ନିମ୍ନୋକ୍ତ ମଧ୍ୟରୁ କେଉଁ ପ୍ରକାର ମୂଲ୍ୟାଙ୍କନର ଅନ୍ତର୍ଭୁକ୍ତ ହୋଇଥାଏ?****Options:**

- 1) ଅଣ-ମୌଖିକ ମୂଲ୍ୟାଙ୍କନ
- 2) ଲିଖିତ ମୂଲ୍ୟାଙ୍କନ
- 3) ମୌଖିକ ଉପସ୍ଥାପନା
- 4) ସଂକ୍ଷିପ୍ତ ଚିତ୍ରଣା

Correct Answer: 2) ଲିଖିତ ମୂଲ୍ୟାଙ୍କନ

Candidate Answer: 2) ଲିଖିତ ମୂଲ୍ୟାଙ୍କନ

QID : 639 - ଏକ ପୋର୍ଟଫୋଲିଓରେ ନିମ୍ନୋକ୍ତ ମଧ୍ୟରୁ କେଉଁ ସାମଗ୍ରୀ ସାମିଲ କରାଯାଇପାରିବ?

Options:

- 1) ପ୍ରଦର୍ଶନ ମାନଦଣ୍ଡ
- 2) ସଂକ୍ଷିପ୍ତ ଚିତ୍ରଣା
- 3) ମୌଖିକ ଉପସ୍ଥାପନାର ରେକର୍ଡିଂ
- 4) ଉପରୋକ୍ତ ସମସ୍ତ ବିକଳ୍ପ

Correct Answer: 4) ଉପରୋକ୍ତ ସମସ୍ତ ବିକଳ୍ପ

Candidate Answer: 4) ଉପରୋକ୍ତ ସମସ୍ତ ବିକଳ୍ପ

QID : 640 - ଲିଖିତ ମୂଲ୍ୟାଙ୍କନରେ ନିମ୍ନୋକ୍ତ ମଧ୍ୟରୁ କେଉଁଟିକୁ ସାମିଲ କରାଯାଇପାରିବ?

Options:

- 1) ଉତ୍ତର ଦେବାରେ ମଜ୍ଜରତାର ଅଧ୍ୟୟନ
- 2) ଛଳନା
- 3) ପାଠ୍ୟର ଭାବାନୁବାଦ
- 4) ପାଠ୍ୟକୁ ଆଉଥରେ କହିବା

Correct Answer: 1) ଉତ୍ତର ଦେବାରେ ମଜ୍ଜରତାର ଅଧ୍ୟୟନ

Candidate Answer: 3) ପାଠ୍ୟର ଭାବାନୁବାଦ

QID : 641 - 'ମୁଁ ମହାକାଶରେ ଚନ୍ଦ୍ର, ସୂର୍ଯ୍ୟ ଏବଂ ନକ୍ଷତ୍ର ପରି ପିଣ୍ଡଗୁଡ଼ିକ ଦେଖିବାକୁ ଭଲପାଏ ।' ଏହି ବକ୍ତବ୍ୟରେ କେଉଁ ଭଳି ପ୍ରସଙ୍ଗ ବ୍ୟବହୃତ ହୋଇଛି?

Options:

- 1) ପରିଭାଷିକ ସୂତ୍ର
- 2) ଦୃଷ୍ଟାନ୍ତ ସୂତ୍ର
- 3) ବିପରୀତ ସୂତ୍ର
- 4) ସମାର୍ଥବୋଧକ ପୁନଃକଥନ ସୂତ୍ର

Correct Answer: 2) ଦୃଷ୍ଟାନ୍ତ ସୂତ୍ର

Candidate Answer: 2) ଦୃଷ୍ଟାନ୍ତ ସୂତ୍ର

QID : 642 - ଠିକ୍ ଉତ୍ତର ସହ ଶୂନ୍ୟସ୍ଥାନ ପୂରଣ କରନ୍ତୁ। ଆମେ ଆମ _____ ଆଧାରରେ ବିଷୟଗୁଡ଼ିକୁ ଏକ୍ସମ୍ ଭିନ୍ନ ଭାବରେ ପଢ଼ି ପାରିବା।

Options:

- 1) ଅର୍ଥପୂର୍ଣ୍ଣ
- 2) ସୁବିଧା
- 3) ଉଦ୍ଦେଶ୍ୟ
- 4) ନିର୍ଦ୍ଦେଶ

Correct Answer: 3) ଉଦ୍ଦେଶ୍ୟ**Candidate Answer: 1) ଅର୍ଥପୂର୍ଣ୍ଣ****QID : 643** - ନିମ୍ନରେ କେଉଁ ପ୍ରକାରର ବାକ୍ୟ ପ୍ରଦାନ କରାଯାଇଛି ତାହା ଚିହ୍ନଟ କରନ୍ତୁ । ତୁମେ କ'ଣ ଖୋଜୁଛ?**Options:**

- 1) ସରଳ ବାକ୍ୟ
- 2) ଯୌଗିକ ବାକ୍ୟ
- 3) ଜଟିଳ ବାକ୍ୟ
- 4) ପ୍ରଶ୍ନ ସୂଚକ ବାକ୍ୟ

Correct Answer: 4) ପ୍ରଶ୍ନ ସୂଚକ ବାକ୍ୟ**Candidate Answer: 4) ପ୍ରଶ୍ନ ସୂଚକ ବାକ୍ୟ****QID : 644** - ଠିକ୍ ବିକଳ ସ୍ତ୍ରୀ ଶୂନ୍ୟସ୍ଥାନ ପୂରଣ କରନ୍ତୁ।

_____ ଯାହାଦ୍ୱାରା ସେମାନେ ନିଜର ପୂର୍ବାନୁମାନ ଯାଞ୍ଚ କରିବା ପାଇଁ ବିଷୟବସ୍ତୁରେ ଦୃଶ୍ୟ ଲକ୍ଷ୍ମୀ ଲକ୍ଷ୍ମୀ ଯେମିତିକି ଅକ୍ଷରଗୁଡ଼ିକ, ଶବ୍ଦ, ବାକ୍ୟଗୁଡ଼ିକ ପ୍ରକ୍ରିୟା କରନ୍ତି ।

Options:

- 1) ଡଳୁ-ଉପର ପଦ୍ଧତି
- 2) ଉପରୁ-ଉପର ପଦ୍ଧତି
- 3) ଡଳୁ-ଡଳ ପଦ୍ଧତି
- 4) ଉପରୁ-ଡଳ ପଦ୍ଧତି

Correct Answer: 1) ଡଳୁ-ଉପର ପଦ୍ଧତି**Candidate Answer: 4) ଉପରୁ-ଡଳ ପଦ୍ଧତି****QID : 645** - ନିମ୍ନୋକ୍ତ କେଉଁ କବିତା କବିବର ରାଧାନାଥ ରାୟଙ୍କ ଦ୍ୱାରା ଲିଖିତ ?**Options:**

- 1) ଉଷା
- 2) ପାର୍ବତୀ
- 3) ଚିଲିକା
- 4) ଉପରୋକ୍ତ ସମସ୍ତ

Correct Answer: 4) ଉପରୋକ୍ତ ସମସ୍ତ

Candidate Answer: 1) ଉଷା

QID : 646 - କିଏ ଶ୍ରଦ୍ଧାରେ ସ୍ମୃତ୍ୟାବ କବି ଭାବେ ପରିଚିତ ?

Options:

- 1) ସୁରେନ୍ଦ୍ର ମହାନ୍ତି
- 2) ଫକୀର ମୋହନ ସେନାପତି
- 3) ଗଙ୍ଗାଧର ମେହର
- 4) ଗୋପୀନାଥ ମହାନ୍ତି

Correct Answer: 3) ଗଙ୍ଗାଧର ମେହର

Candidate Answer: 3) ଗଙ୍ଗାଧର ମେହର

QID : 647 - ସୁରେନ୍ଦ୍ର ମହାନ୍ତି କେଉଁ ଖବର କାଗଜର ପ୍ରଥମ ସଂପାଦକ :

Options:

- 1) ସମୟ
- 2) ସମାଜ
- 3) ସମ୍ବାଦ
- 4) ଧରିତ୍ରୀ

Correct Answer: 3) ସମ୍ବାଦ

Candidate Answer: 3) ସମ୍ବାଦ

QID : 648 - କେଉଁ ଉପନ୍ୟାସ ପାଇଁ 1974ରେ ଗୋପୀନାଥ ମହାନ୍ତିଙ୍କୁ ଜ୍ଞାନୀପୀଠ ପୁରସ୍କାର ଦିଆଯାଇଥିଲା ?

Options:

- 1) ଅମୃତର ସନ୍ତାନ
- 2) ମାଟି ମଟାଳ
- 3) ପରଜା
- 4) ଶିବ ଭାଇ

Correct Answer: 2) ମାଟି ମଟାଳ

Candidate Answer: 3) ପରଜା

QID : 649 - ସମ୍ମାନନୀୟ କେନ୍ଦ୍ରୀୟ ସାହିତ୍ୟ ଏକାଡେମୀ ପୁରସ୍କାର ସୁରେନ୍ଦ୍ର ମହାନ୍ତିଙ୍କୁ ତାଙ୍କର କେଉଁ ଉପନ୍ୟାସ ପାଇଁ ଦିଆଯାଇଥିଲା:

Options:

- 1) କୃଷ୍ଣାବେଶୀରେ ସନ୍ଧ୍ୟା
- 2) ଆଜୀବକର ଅଳହାସ୍ୟ
- 3) ନୀଳାଦ୍ରି ବିଜୟ
- 4) ନୀଳଶୈଳ

Correct Answer: 4) ନୀଳଶୈଳ**Candidate Answer: 3) ନୀଳାଦ୍ରି ବିଜୟ****QID : 650 - ପଦ୍ୟର ମୋହନ ସେନାପତିଙ୍କୁ କିଏ “ଓଡ଼ିଶାର ଗୌରବ ” ଶୀର୍ଷକ ଦେଇଥିଲେ ?****Options:**

- 1) ତମପଡ଼ା ଦରବାର
- 2) ତଙ୍କୁର. ଜେ. ଭି. ବୁଲଟନ୍
- 3) ତଙ୍କୁର. ମାୟାଧର
- 4) ରାଧାନାଥ ରାୟ

Correct Answer: 2) ତଙ୍କୁର. ଜେ. ଭି. ବୁଲଟନ୍**Candidate Answer: 1) ତମପଡ଼ା ଦରବାର**

QID : 651 - ନିମ୍ନରେ ପ୍ରଦାନ କରାଯାଇଥିବା ଗଦ୍ୟାଂଶଟିକୁ ପଢ଼ନ୍ତୁ ଏବଂ ନିମ୍ନ ପ୍ରଶ୍ନଗୁଡ଼ିକର ଉତ୍ତର ଦିଅନ୍ତୁ।
 ଝରକାରୁ ବିପରୀତ ପାର୍ଶ୍ୱରେ ଥିବା ଘରର ଦୃଶ୍ୟ ଦେଖି ହେଉଥିଲା। ଦିନେ ରୁଚିରାର ପଢ଼ା ବହି ସେମିତି ଖୋଲା ନ ହୋଇ ପଡ଼ିଥିଲା। କାରଣ ଝିଅଟିର ନଜର ଥିଲା ଅପରପାର୍ଶ୍ୱରେ ଥିବା ଘରେ କ'ଣ ହେଉଛି ସେ ଉପରେ।
 ନୂଆ ଯୁବ ପଢ଼ୋଶୀଙ୍କ ଦୈନନ୍ଦିନ କାର୍ଯ୍ୟକଳାପ ଝରକାରୁ ଦେଖାଯାଉଥିଲା- ସେ ତାଉଳ ବାଜୁଥିଲେ; ଗୁଆ କାଟୁଥିଲେ; ତକିଆକୁ ଖରା ଦେଉଥିଲେ। ଝିଅଟି ଛାତ ଉପରେ ବସୁଥିଲା ଏବଂ ପଢୁଥିଲା। ବେଳେ ବେଳେ ସେ ଲେଖୁଥିଲା। ଦିନେ ଅସୁବିଧାଟିଏ ହେଲା। ସେ ଲେଖୁଥିବା ବେଳେ ଜଣେ ବୟସ୍କ ମହିଳା ତାଙ୍କ ହାତରୁ ଅଧା ଲେଖା ହୋଇଥିବା ଚିଠି ଛଡ଼େଇ ନେଲେ।
 ସେଦିନ ରାତିରେ ରୁଚିରା ଚିଠିଟିଏ ଲେଖିଲା ଏବଂ ସାଙ୍ଗେ ସାଙ୍ଗେ ତାକରେ ପକାଇଲା। କିନ୍ତୁ ଯେତେବେଳେ ସେ ରାତିରେ ବିଛଣାକୁ ଶୋଇବାକୁ ଗଲା, ସେ ଦୃଢ଼ ଭାବରେ ପ୍ରାର୍ଥନା କଲା ଯେ, ତା'ର ବନ୍ଧୁତାର ପ୍ରସ୍ତାବ ଏହାର ଲକ୍ଷ୍ୟସ୍ଥଳରେ ନ ପହଞ୍ଚି ଏହା ପରେ ରୁଚିରା ମଧୁପୁର ଚାଲିଗଲା ଏବଂ ଫେରିବା ବେଳକୁ କଲେଜ ଆରମ୍ଭ ହେବାର ସମୟ ହୋଇଯାଇଥିଲା। ସେ ଦେଖିଲା ଅପରପାର୍ଶ୍ୱରେ ଥିବା ଘରଟି ଅନ୍ଧାରରେ ଅଛି, ତାଲା ପଡ଼ିଛି। ସେମାନେ ଚାଲି ଯାଇଛନ୍ତି।
 ଯେତେବେଳେ ସେ ନିଜ କୋଠରୀ ଭିତରକୁ ପାଦ ପକାଇଲା, ଦେଖିଲା ତେସ୍ ଉପରେ ଚିଠି ଗଦା ହୋଇଛି- ଗୋଟିକରେ ତା'ର ନାମ ଓ ଠିକଣା ଅପରିଚିତ ଅନ୍ଧାରରେ ଲେଖାଯାଇଛି ଏବଂ ଏଥିରେ ସ୍ଥାନୀୟ ଷ୍ଟାମ୍ପ ବାଜିଛି। ସେ ତୁରନ୍ତ ଏହାକୁ ପଢ଼ିଲା। ସେମାନେ ପରବର୍ତ୍ତୀ ୨୦ବର୍ଷ ପର୍ଯ୍ୟନ୍ତ ପରସ୍ପରକୁ ଲେଖିବା ଅବ୍ୟାହତ ରଖିଲେ।

ନିଜ ନୂଆ ପଢ଼ୋଶୀଙ୍କୁ ଗୋଟିଏ ଚିଠି ଲେଖିବା ପଛରେ ରୁଚିରାର ଉଦ୍ଦେଶ୍ୟ କ'ଣ ଥିଲା?

Options:

- 1) ରୁଚିରା ତାଙ୍କର ବନ୍ଧୁ ହେବାକୁ ଚାହୁଁଥିଲା
- 2) ରୁଚିରା ତାଙ୍କୁ ସାହାଯ୍ୟ କରିବାକୁ ଚାହୁଁଥିଲା
- 3) ରୁଚିରା ତାଙ୍କୁ କ୍ଷମା ମାଗିବାକୁ ଚାହୁଁଥିଲା
- 4) ସେ କେବଳ ତାଙ୍କୁ ଉତ୍ସାହିତ କରିବାକୁ ଚାହୁଁଥିଲା

Correct Answer: 1) ରୁଚିରା ତାଙ୍କର ବନ୍ଧୁ ହେବାକୁ ଚାହୁଁଥିଲା**Candidate Answer: 1) ରୁଚିରା ତାଙ୍କର ବନ୍ଧୁ ହେବାକୁ ଚାହୁଁଥିଲା**

QID : 652 - ନିମ୍ନରେ ପ୍ରଦାନ କରାଯାଇଥିବା ଗଦ୍ୟାଂଶଟିକୁ ପଢ଼ନ୍ତୁ ଏବଂ ନିମ୍ନ ପ୍ରଶ୍ନଗୁଡ଼ିକର ଉତ୍ତର ଦିଅନ୍ତୁ।
ଝରକାରୁ ବିପରୀତ ପାର୍ଶ୍ୱରେ ଥିବା ଘରର ଦୃଶ୍ୟ ଦେଖି ହେଉଥିଲା। ଦିନେ ରୁଚିରାର ପଢ଼ା ବହି ସେମିତି ଖୋଲା ନ ହୋଇ ପଡ଼ିଥିଲା। କାରଣ ଝିଅଟିର ନଜର ଥିଲା ଅପରପାର୍ଶ୍ୱରେ ଥିବା ଘରେ କ'ଣ ହେଉଛି ସେ ଉପରେ।
ନୂଆ ଯୁବ ପଢ଼ାଶୀଳ ଦୈନନ୍ଦିନ କାର୍ଯ୍ୟକଳାପ ଝରକାରୁ ଦେଖାଯାଉଥିଲା- ସେ ଚାଉଳ ବାଛୁଥିଲେ; ଗୁଆ କାଟୁଥିଲେ; ତକିଆକୁ ଖରା ଦେଉଥିଲେ। ଝିଅଟି ଛାତ ଉପରେ ବସୁଥିଲା ଏବଂ ପଢୁଥିଲା। ବେଳେ ବେଳେ ସେ ଲେଖୁଥିଲା। ଦିନେ ଅସୁବିଧାଟିଏ ହେଲା। ସେ ଲେଖୁଥିବା ବେଳେ ଜଣେ ବୟସ୍କ ମହିଳା ତାଙ୍କ ହାତରୁ ଅଧା ଲେଖା ହୋଇଥିବା ଚିଠି ଛଡ଼େଇ ନେଲେ।
ସେଦିନ ରାତିରେ ରୁଚିରା ଚିଠିଟିଏ ଲେଖିଲା ଏବଂ ସାଙ୍ଗେ ସାଙ୍ଗେ ତାକରେ ପକାଇଲା। କିନ୍ତୁ ଯେତେବେଳେ ସେ ରାତିରେ ବିଛଣାକୁ ଶୋଇବାକୁ ଗଲା, ସେ ଦୃଢ଼ ଭାବରେ ପ୍ରାର୍ଥନା କଲା ଯେ, ତା'ର ବନ୍ଧୁତାର ପ୍ରସ୍ତାବ ଏହାର ଲକ୍ଷ୍ୟସ୍ଥଳରେ ନ ପହଞ୍ଚି। ଏହା ପରେ ରୁଚିରା ମଧୁପୁର ଚାଲିଗଲା ଏବଂ ଫେରିବା ବେଳକୁ କଲେଜ ଆରମ୍ଭ ହେବାର ସମୟ ହୋଇଯାଇଥିଲା। ସେ ଦେଖିଲା ଅପରପାର୍ଶ୍ୱରେ ଥିବା ଘରଟି ଅନ୍ଧାରରେ ଅଛି, ତାଲା ପଡ଼ିଛି। ସେମାନେ ଚାଲି ଯାଇଛନ୍ତି।
ଯେତେବେଳେ ସେ ନିଜ କୋଠରୀ ଭିତରକୁ ପାଦ ପକାଇଲା, ଦେଖିଲା ଡେସ୍କ ଉପରେ ଚିଠି ଗଦା ହୋଇଛି- ଗୋଟିକରେ ତା'ର ନାମ ଓ ଠିକଣା ଅପରିଚିତ ଅକ୍ଷରରେ ଲେଖାଯାଇଛି ଏବଂ ଏଥିରେ ସ୍ଥାନୀୟ ସ୍ତମ୍ଭ ବାଜିଛି। ସେ ତୁରନ୍ତ ଏହାକୁ ପଢ଼ିଲା। ସେମାନେ ପରବର୍ତ୍ତୀ ୨୦ ବର୍ଷ ପର୍ଯ୍ୟନ୍ତ ପରସ୍ପରକୁ ଲେଖିବା ଅବ୍ୟାହତ ରଖିଲେ।

ଅପରାହ୍ନରେ ନୂଆ ପଢ଼ାଶୀଳ (ଝିଅ)ର ନିୟମିତ କାର୍ଯ୍ୟ କ'ଣ ଥିଲା?

Options:

- 1) ସେ ଚାଉଳ ବାଛୁଥିଲେ।
- 2) ଶୁଖିବା ପାଇଁ ତକିଆ ଖରାରେ ଦେଉଥିଲେ।
- 3) ସେ ନିଜ ସମୟ ପଢ଼ିବା ଏବଂ ଲେଖିବାରେ କଟାଉଥିଲେ।
- 4) ଉପରୋକ୍ତ ମଧ୍ୟରୁ ସମସ୍ତ

Correct Answer: 3) ସେ ନିଜ ସମୟ ପଢ଼ିବା ଏବଂ ଲେଖିବାରେ କଟାଉଥିଲେ।

Candidate Answer: 3) ସେ ନିଜ ସମୟ ପଢ଼ିବା ଏବଂ ଲେଖିବାରେ କଟାଉଥିଲେ।

QID : 653 - ନିମ୍ନରେ ପ୍ରଦାନ କରାଯାଇଥିବା ଗଦ୍ୟାଂଶଟିକୁ ପଢ଼ନ୍ତୁ ଏବଂ ନିମ୍ନ ପ୍ରଶ୍ନଗୁଡ଼ିକର ଉତ୍ତର ଦିଅନ୍ତୁ।
ଝରକାରୁ ବିପରୀତ ପାର୍ଶ୍ୱରେ ଥିବା ଘରର ଦୃଶ୍ୟ ଦେଖି ହେଉଥିଲା। ଦିନେ ରୁଚିରାର ପଢ଼ା ବହି ସେମିତି ଖୋଲା ନ ହୋଇ ପଡ଼ିଥିଲା। କାରଣ ଝିଅଟିର ନଜର ଥିଲା ଅପରପାର୍ଶ୍ୱରେ ଥିବା ଘରେ କ'ଣ ହେଉଛି ସେ ଉପରେ।
ନୂଆ ଯୁବ ପଢ଼ାଶୀଳ ଦୈନନ୍ଦିନ କାର୍ଯ୍ୟକଳାପ ଝରକାରୁ ଦେଖାଯାଉଥିଲା- ସେ ଚାଉଳ ବାଛୁଥିଲେ; ଗୁଆ କାଟୁଥିଲେ; ତକିଆକୁ ଖରା ଦେଉଥିଲେ। ଝିଅଟି ଛାତ ଉପରେ ବସୁଥିଲା ଏବଂ ପଢୁଥିଲା। ବେଳେ ବେଳେ ସେ ଲେଖୁଥିଲା। ଦିନେ ଅସୁବିଧାଟିଏ ହେଲା। ସେ ଲେଖୁଥିବା ବେଳେ ଜଣେ ବୟସ୍କ ମହିଳା ତାଙ୍କ ହାତରୁ ଅଧା ଲେଖା ହୋଇଥିବା ଚିଠି ଛଡ଼େଇ ନେଲେ।
ସେଦିନ ରାତିରେ ରୁଚିରା ଚିଠିଟିଏ ଲେଖିଲା ଏବଂ ସାଙ୍ଗେ ସାଙ୍ଗେ ତାକରେ ପକାଇଲା। କିନ୍ତୁ ଯେତେବେଳେ ସେ ରାତିରେ ବିଛଣାକୁ ଶୋଇବାକୁ ଗଲା, ସେ ଦୃଢ଼ ଭାବରେ ପ୍ରାର୍ଥନା କଲା ଯେ, ତା'ର ବନ୍ଧୁତାର ପ୍ରସ୍ତାବ ଏହାର ଲକ୍ଷ୍ୟସ୍ଥଳରେ ନ ପହଞ୍ଚି। ଏହା ପରେ ରୁଚିରା ମଧୁପୁର ଚାଲିଗଲା ଏବଂ ଫେରିବା ବେଳକୁ କଲେଜ ଆରମ୍ଭ ହେବାର ସମୟ ହୋଇଯାଇଥିଲା। ସେ ଦେଖିଲା ଅପରପାର୍ଶ୍ୱରେ ଥିବା ଘରଟି ଅନ୍ଧାରରେ ଅଛି, ତାଲା ପଡ଼ିଛି। ସେମାନେ ଚାଲି ଯାଇଛନ୍ତି।
ଯେତେବେଳେ ସେ ନିଜ କୋଠରୀ ଭିତରକୁ ପାଦ ପକାଇଲା, ଦେଖିଲା ଡେସ୍କ ଉପରେ ଚିଠି ଗଦା ହୋଇଛି- ଗୋଟିକରେ ତା'ର ନାମ ଓ ଠିକଣା ଅପରିଚିତ ଅକ୍ଷରରେ ଲେଖାଯାଇଛି ଏବଂ ଏଥିରେ ସ୍ଥାନୀୟ ସ୍ତମ୍ଭ ବାଜିଛି। ସେ ତୁରନ୍ତ ଏହାକୁ ପଢ଼ିଲା। ସେମାନେ ପରବର୍ତ୍ତୀ ୨୦ ବର୍ଷ ପର୍ଯ୍ୟନ୍ତ ପରସ୍ପରକୁ ଲେଖିବା ଅବ୍ୟାହତ ରଖିଲେ।

ନିମ୍ନୋକ୍ତ ମଧ୍ୟରୁ କେଉଁଟି “ବାଧା” ଶବ୍ଦର ପ୍ରତିଶବ୍ଦ?

Options:

- 1) ଅଚଳ
- 2) ଅବରୋଧ
- 3) ବିଳମ୍ବିତ
- 4) କଷ୍ଟକର

Correct Answer: 2) ଅବରୋଧ

Candidate Answer: 2) ଅବରୋଧ

QID : 654 - ନିମ୍ନରେ ପ୍ରଦାନ କରାଯାଇଥିବା ଗଦ୍ୟାଂଶଟିକୁ ପଢ଼ନ୍ତୁ ଏବଂ ନିମ୍ନ ପ୍ରଶ୍ନଗୁଡ଼ିକର ଉତ୍ତର ଦିଅନ୍ତୁ।
ଝରକାରୁ ବିପରୀତ ପାର୍ଶ୍ୱରେ ଥିବା ଘରର ଦୃଶ୍ୟ ଦେଖି ହେଉଥିଲା। ଦିନେ ରୁଚିରାର ପଢ଼ା ବହି ସେମିତି ଖୋଲା ନ ହୋଇ ପଡ଼ିଥିଲା। କାରଣ ଝିଅଟିର ନଜର ଥିଲା ଅପରପାର୍ଶ୍ୱରେ ଥିବା ଘରେ କ'ଣ ହେଉଛି ସେ ଉପରେ।
ନୂଆ ଯୁବ ପଡ଼ୋଶୀଙ୍କ ଦୈନନ୍ଦିନ କାର୍ଯ୍ୟକଳାପ ଝରକାରୁ ଦେଖାଯାଉଥିଲା- ସେ ତାଉଳ ବାଛୁଥିଲେ; ଗୁଆ କାଟୁଥିଲେ; ତକିଆକୁ ଖରା ଦେଉଥିଲେ। ଝିଅଟି ଛାତ ଉପରେ ବସୁଥିଲା ଏବଂ ପଢୁଥିଲା। ବେଳେ ବେଳେ ସେ ଲେଖୁଥିଲା। ଦିନେ ଅସୁବିଧାଟିଏ ହେଲା। ସେ ଲେଖୁଥିବା ବେଳେ ଜଣେ ବୟସ୍କ ମହିଳା ତାଙ୍କ ହାତରୁ ଅଧା ଲେଖା ହୋଇଥିବା ଚିଠି ଛଡ଼େଇ ନେଲେ।
ସେଦିନ ରାତିରେ ରୁଚିରା ଚିଠିଟିଏ ଲେଖିଲା ଏବଂ ସାଙ୍ଗେ ସାଙ୍ଗେ ତାକରେ ପକାଇଲା। କିନ୍ତୁ ଯେତେବେଳେ ସେ ରାତିରେ ବିଛଣାକୁ ଶୋଇବାକୁ ଗଲା, ସେ ଦୃଢ଼ ଭାବରେ ପ୍ରାର୍ଥନା କଲା ଯେ, ତା'ର ବନ୍ଧୁତାର ପ୍ରସ୍ତାବ ଏହାର ଲକ୍ଷ୍ୟସ୍ଥଳରେ ନ ପହଞ୍ଚି ଏହା ପରେ ରୁଚିରା ମଧୁପୁର ଚାଲିଗଲା ଏବଂ ଫେରିବା ବେଳକୁ କଲେଜ ଆରମ୍ଭ ହେବାର ସମୟ ହୋଇଯାଇଥିଲା। ସେ ଦେଖିଲା ଅପରପାର୍ଶ୍ୱରେ ଥିବା ଘରଟି ଅନ୍ଧାରରେ ଅଛି, ତାଲା ପଡ଼ିଛି। ସେମାନେ ଚାଲି ଯାଇଛନ୍ତି।
ଯେତେବେଳେ ସେ ନିଜ କୋଠରୀ ଭିତରକୁ ପାଦ ପକାଇଲା, ଦେଖିଲା ଡେସ୍କ ଉପରେ ଚିଠି ଗଦା ହୋଇଛି- ଗୋଟିକରେ ତା'ର ନାମ ଓ ଠିକଣା ଅପରିଚିତ ଅକ୍ଷରରେ ଲେଖାଯାଇଛି ଏବଂ ଏଥିରେ ସ୍ଥାନୀୟ ସ୍ତମ୍ଭ ବାଜିଛି। ସେ ତୁରନ୍ତ ଏହାକୁ ପଢ଼ିଲା। ସେମାନେ ପରବର୍ତ୍ତୀ ୨୦ ବର୍ଷ ପର୍ଯ୍ୟନ୍ତ ପରସ୍ପରକୁ ଲେଖିବା ଅବ୍ୟାହତ ରଖିଲେ।

ନିମ୍ନୋକ୍ତ ମଧ୍ୟରୁ କେଉଁ ଶବ୍ଦ ଗଦ୍ୟାଂଶରେ ବ୍ୟବହୃତ ହୋଇଥିବା 'ଗଦା ହେବା' ଅର୍ଥର ସବୁଠାରୁ ବିପରୀତ?

Options:

- 1) କମ୍
- 2) ପ୍ରଦତ୍ତ
- 3) ପଢ଼ିବା
- 4) ଖାଲି

Correct Answer: 4) ଖାଲି

Candidate Answer: 4) ଖାଲି

QID : 655 - ନିମ୍ନରେ ପ୍ରଦାନ କରାଯାଇଥିବା ଗଦ୍ୟାଂଶଟିକୁ ପଢ଼ନ୍ତୁ ଏବଂ ନିମ୍ନ ପ୍ରଶ୍ନଗୁଡ଼ିକର ଉତ୍ତର ଦିଅନ୍ତୁ।
ଝରକାରୁ ବିପରୀତ ପାର୍ଶ୍ୱରେ ଥିବା ଘରର ଦୃଶ୍ୟ ଦେଖି ହେଉଥିଲା। ଦିନେ ରୁଚିରାର ପଢ଼ା ବହି ସେମିତି ଖୋଲା ନ ହୋଇ ପଡ଼ିଥିଲା। କାରଣ ଝିଅଟିର ନଜର ଥିଲା ଅପରପାର୍ଶ୍ୱରେ ଥିବା ଘରେ କ'ଣ ହେଉଛି ସେ ଉପରେ।
ନୂଆ ଯୁବ ପଡ଼ୋଶୀଙ୍କ ଦୈନନ୍ଦିନ କାର୍ଯ୍ୟକଳାପ ଝରକାରୁ ଦେଖାଯାଉଥିଲା- ସେ ତାଉଳ ବାଛୁଥିଲେ; ଗୁଆ କାଟୁଥିଲେ; ତକିଆକୁ ଖରା ଦେଉଥିଲେ। ଝିଅଟି ଛାତ ଉପରେ ବସୁଥିଲା ଏବଂ ପଢୁଥିଲା। ବେଳେ ବେଳେ ସେ ଲେଖୁଥିଲା। ଦିନେ ଅସୁବିଧାଟିଏ ହେଲା। ସେ ଲେଖୁଥିବା ବେଳେ ଜଣେ ବୟସ୍କ ମହିଳା ତାଙ୍କ ହାତରୁ ଅଧା ଲେଖା ହୋଇଥିବା ଚିଠି ଛଡ଼େଇ ନେଲେ।
ସେଦିନ ରାତିରେ ରୁଚିରା ଚିଠିଟିଏ ଲେଖିଲା ଏବଂ ସାଙ୍ଗେ ସାଙ୍ଗେ ତାକରେ ପକାଇଲା। କିନ୍ତୁ ଯେତେବେଳେ ସେ ରାତିରେ ବିଛଣାକୁ ଶୋଇବାକୁ ଗଲା, ସେ ଦୃଢ଼ ଭାବରେ ପ୍ରାର୍ଥନା କଲା ଯେ, ତା'ର ବନ୍ଧୁତାର ପ୍ରସ୍ତାବ ଏହାର ଲକ୍ଷ୍ୟସ୍ଥଳରେ ନ ପହଞ୍ଚି ଏହା ପରେ ରୁଚିରା ମଧୁପୁର ଚାଲିଗଲା ଏବଂ ଫେରିବା ବେଳକୁ କଲେଜ ଆରମ୍ଭ ହେବାର ସମୟ ହୋଇଯାଇଥିଲା। ସେ ଦେଖିଲା ଅପରପାର୍ଶ୍ୱରେ ଥିବା ଘରଟି ଅନ୍ଧାରରେ ଅଛି, ତାଲା ପଡ଼ିଛି। ସେମାନେ ଚାଲି ଯାଇଛନ୍ତି।
ଯେତେବେଳେ ସେ ନିଜ କୋଠରୀ ଭିତରକୁ ପାଦ ପକାଇଲା, ଦେଖିଲା ଡେସ୍କ ଉପରେ ଚିଠି ଗଦା ହୋଇଛି- ଗୋଟିକରେ ତା'ର ନାମ ଓ ଠିକଣା ଅପରିଚିତ ଅକ୍ଷରରେ ଲେଖାଯାଇଛି ଏବଂ ଏଥିରେ ସ୍ଥାନୀୟ ସ୍ତମ୍ଭ ବାଜିଛି। ସେ ତୁରନ୍ତ ଏହାକୁ ପଢ଼ିଲା। ସେମାନେ ପରବର୍ତ୍ତୀ ୨୦ ବର୍ଷ ପର୍ଯ୍ୟନ୍ତ ପରସ୍ପରକୁ ଲେଖିବା ଅବ୍ୟାହତ ରଖିଲେ।

ଏହି ଗଦ୍ୟାଂଶ ପରିପ୍ରେକ୍ଷୀରେ ନିମ୍ନୋକ୍ତ ମଧ୍ୟରୁ କେଉଁ ଉକ୍ତିଟି ଠିକ୍?

Options:

- 1) ନୂତନ ଯୁବ ପଡ଼ୋଶୀ ଜଣକ ଜଣେ ତାନ୍ତ୍ର ଥିଲେ।
- 2) ରୁଚିରା ଏବଂ ତାଙ୍କ ପଡ଼ୋଶୀଙ୍କ ମଧ୍ୟରେ ମାତ୍ର ଗୋଟିଏ ପତ୍ର ବିନିମୟ ହୋଇଥିଲା।
- 3) ଯୁବତୀ ଜଣକ ଧର୍ମନିଷ୍ଠ ଥିଲେ ଏବଂ ସବୁଦିନ ପ୍ରାର୍ଥନା କରୁଥିଲେ।
- 4) ରୁଚିରା ତାଙ୍କ ସମୟ ପଢ଼ିବା ଏବଂ ଲେଖିବାର କଟାଉଥିଲେ।

Correct Answer: 3) ଯୁବତୀ ଜଣକ ଧର୍ମନିଷ୍ଠ ଥିଲେ ଏବଂ ସବୁଦିନ ପ୍ରାର୍ଥନା କରୁଥିଲେ

Candidate Answer: 3) ଯୁବତୀ ଜଣକ ଧର୍ମନିଷ୍ଠ ଥିଲେ ଏବଂ ସବୁଦିନ ପ୍ରାର୍ଥନା କରୁଥିଲେ

QID : 656 - ତୀର୍ଥଯାତ୍ରାରୁ ଆରମ୍ଭ ହୋଇଥିଲା ଏହା ମନକୁ ଉଚ୍ଚ କରିବା ଏବଂ ସବୁ ବୋଝକୁ ହାଲୁକା କରିବା। ଖୋଜିଲି ହେଲେ ପରୀକ୍ଷାକୁ ସାମ୍ୟା କଲିନି ସୂର୍ଯ୍ୟ ଆମ କ୍ରୋଧକୁ ହରାଇଦେଲେ।

ଆମେ ଏହାକୁ ଭଲଭାବରେ ସାମ୍ୟା କଲୁ, ମୁଁ ଭାବୁଛି ଦେଖୁଲୁ ଏବଂ ନକଲି ଚିଠା ସବୁ ପକାଇ ଦେଲୁ ଚାଷୀମାନେ ଯାହା ବିକିଥିଲେ କିଣିଥିଲେ ତାହାର ସାପ ଆଉ ଛେଳିମାନଙ୍କର ରାସ୍ତା। ତିନୋଟି ସହର ଯେଉଁଠି ଜଣେ ରଷି ଶିଖାଇଥିଲେ।

କିନ୍ତୁ ଯେତେବେଳେ ବିଭେଦ ହେଲା କେମିତି ମରୁରାସ୍ତା ପାର୍ ହେବାକୁ ହେବ, ଆମେ ଜଣେ ବନ୍ଧୁ ହରାଇଲୁ ଯାହାର ସୁନ୍ଦର ରଚନା ଆମ ଶ୍ରେଣୀର ସବୁଠାରୁ ଶ୍ରେଷ୍ଠ ଥିଲା। ଆମ ଉପରେ ଏକ ଅନ୍ଧାର ପଡ଼ିଲା ଆଉ ବଢ଼ିଚାଲିଲା।

ଯେତେବେଳେ କବି ଏବଂ ତାଙ୍କ ବନ୍ଧୁମାନେ ତୀର୍ଥରେ ବାହାରିଲେ ସେମାନେ କିପରି ଅନୁଭବ କଲେ ?

Options:

- 1) ଅସବୁଷ୍ଟ
- 2) ଚାପଗ୍ରସ୍ତ
- 3) ବୋଝମୁକ୍ତ
- 4) କ୍ରୋଧରେ ପରିପୂର୍ଣ୍ଣ

Correct Answer: 3) ବୋଝମୁକ୍ତ

Candidate Answer: 3) ବୋଝମୁକ୍ତ

QID : 657 - ତୀର୍ଥଯାତ୍ରାରୁ ଆରମ୍ଭ ହୋଇଥିଲା ଏହା ମନକୁ ଉଚ୍ଚ କରିବା ଏବଂ ସବୁ ବୋଝକୁ ହାଲୁକା କରିବା। ଖୋଜିଲି ହେଲେ ପରୀକ୍ଷାକୁ ସାମ୍ୟା କଲିନି ସୂର୍ଯ୍ୟ ଆମ କ୍ରୋଧକୁ ହରାଇଦେଲେ।

ଆମେ ଏହାକୁ ଭଲଭାବରେ ସାମ୍ୟା କଲୁ, ମୁଁ ଭାବୁଛି ଦେଖୁଲୁ ଏବଂ ନକଲି ଚିଠା ସବୁ ପକାଇ ଦେଲୁ ଚାଷୀମାନେ ଯାହା ବିକିଥିଲେ କିଣିଥିଲେ ତାହାର ସାପ ଆଉ ଛେଳିମାନଙ୍କର ରାସ୍ତା। ତିନୋଟି ସହର ଯେଉଁଠି ଜଣେ ରଷି ଶିଖାଇଥିଲେ।

କିନ୍ତୁ ଯେତେବେଳେ ବିଭେଦ ହେଲା କେମିତି ମରୁରାସ୍ତା ପାର୍ ହେବାକୁ ହେବ, ଆମେ ଜଣେ ବନ୍ଧୁ ହରାଇଲୁ ଯାହାର ସୁନ୍ଦର ରଚନା ଆମ ଶ୍ରେଣୀର ସବୁଠାରୁ ଶ୍ରେଷ୍ଠ ଥିଲା। ଆମ ଉପରେ ଏକ ଅନ୍ଧାର ପଡ଼ିଲା ଆଉ ବଢ଼ିଚାଲିଲା।

କବିତାରେ କବି ବ୍ୟସ୍ତ ଅଛନ୍ତି

Options:

- 1) ଅଭିଯାନ
- 2) ଯାତ୍ରା
- 3) କାର୍ଯ୍ୟ
- 4) ସମ୍ବନ୍ଧ ସମ୍ପର୍କ"

Correct Answer: 2) ଯାତ୍ରା

Candidate Answer: 2) ଯାତ୍ରା

QID : 658 - ତୀର୍ଥଯାତ୍ରାରୁ ଆରମ୍ଭ ହୋଇଥିଲା ଏହା ମନକୁ ଉଚ୍ଚ କରିବା ଏବଂ ସବୁ ବୋଝକୁ ହାଲୁକା କରିବା। ଖୋଜିଲି ହେଲେ ପରୀକ୍ଷାକୁ ସାମ୍ନା କଲିନି ସୂର୍ଯ୍ୟ ଆମ କ୍ରୋଧକୁ ହରାଇଦେଲେ।

ଆମେ ଏହାକୁ ଭଲଭାବରେ ସାମ୍ନା କଲୁ, ମୁଁ ଭାବୁଛି ଦେଖୁଲୁ ଏବଂ ନକଲି ଚିଠା ସବୁ ପକାଇ ଦେଲୁ ଚାଷୀମାନେ ଯାହା ବିକିଥିଲେ କିଣିଥିଲେ ତାହାର ସାପ ଆଉ ଛେଳିମାନଙ୍କର ରାସ୍ତା। ତିନୋଟି ସହର ଯେଉଁଠି ଜଣେ ରଷି ଶିଖାଇଥିଲେ।

କିନ୍ତୁ ଯେତେବେଳେ ବିଭେଦ ହେଲା କେମିତି ମରୁରାସ୍ତା ପାର୍ ହେବାକୁ ହେବ, ଆମେ ଜଣେ ବନ୍ଧୁ ହରାଇଲୁ ଯାହାର ସୁନ୍ଦର ରଚନା ଆମ ଶ୍ରେଣୀର ସବୁଠାରୁ ଶ୍ରେଷ୍ଠ ଥିଲା। ଆମ ଉପରେ ଏକ ଅନ୍ଧାର ପଡ଼ିଲା ଆଉ ବଢ଼ିଚାଲିଲା।

ବନ୍ଧୁମାନଙ୍କ ମଧ୍ୟରେ କେତେବେଳେ ମତାନ୍ତର ସୃଷ୍ଟି ହେଲା?

Options:

- 1) ମରୁଭୂମିରେ
- 2) ସହରାଞ୍ଚଳରେ
- 3) ଗ୍ରାମାଞ୍ଚଳରେ
- 4) ପର୍ବତରେ

Correct Answer: 1) ମରୁଭୂମିରେ

Candidate Answer: 1) ମରୁଭୂମିରେ

QID : 659 - ତୀର୍ଥଯାତ୍ରାରୁ ଆରମ୍ଭ ହୋଇଥିଲା ଏହା ମନକୁ ଉଚ୍ଚ କରିବା ଏବଂ ସବୁ ବୋଝକୁ ହାଲୁକା କରିବା। ଖୋଜିଲି ହେଲେ ପରୀକ୍ଷାକୁ ସାମ୍ନା କଲିନି ସୂର୍ଯ୍ୟ ଆମ କ୍ରୋଧକୁ ହରାଇଦେଲେ।

ଆମେ ଏହାକୁ ଭଲଭାବରେ ସାମ୍ନା କଲୁ, ମୁଁ ଭାବୁଛି ଦେଖୁଲୁ ଏବଂ ନକଲି ଚିଠା ସବୁ ପକାଇ ଦେଲୁ ଚାଷୀମାନେ ଯାହା ବିକିଥିଲେ କିଣିଥିଲେ ତାହାର ସାପ ଆଉ ଛେଳିମାନଙ୍କର ରାସ୍ତା। ତିନୋଟି ସହର ଯେଉଁଠି ଜଣେ ରଷି ଶିଖାଇଥିଲେ।

କିନ୍ତୁ ଯେତେବେଳେ ବିଭେଦ ହେଲା କେମିତି ମରୁରାସ୍ତା ପାର୍ ହେବାକୁ ହେବ, ଆମେ ଜଣେ ବନ୍ଧୁ ହରାଇଲୁ ଯାହାର ସୁନ୍ଦର ରଚନା ଆମ ଶ୍ରେଣୀର ସବୁଠାରୁ ଶ୍ରେଷ୍ଠ ଥିଲା। ଆମ ଉପରେ ଏକ ଅନ୍ଧାର ପଡ଼ିଲା ଆଉ ବଢ଼ିଚାଲିଲା।

ଶେଷ ପଦର ଶେଷ ଧାଡ଼ି କ'ଣ ସ୍ମୃତ କରୁଛି?

Options:

- 1) କ୍ରୋଧର ଛାଇ ଆମ ଉପରେ ପଡ଼ିଲା
- 2) ଖୁସିର ଛାଇ ଆମ ଉପରେ ପଡ଼ିଲା
- 3) ଅସନ୍ତୋଷର ଛାଇ ଆମ ଉପରେ ପଡ଼ିଲା
- 4) ଉତ୍ସାହର ଛାଇ ଆମ ଉପରେ ପଡ଼ିଲା

Correct Answer: 3) ଅସନ୍ତୋଷର ଛାଇ ଆମ ଉପରେ ପଡ଼ିଲା

Candidate Answer: 4) ଉତ୍ସାହର ଛାଇ ଆମ ଉପରେ ପଡ଼ିଲା

QID : 660 - ତୀର୍ଥଯାତ୍ରାରୁ ଆରମ୍ଭ ହୋଇଥିଲା ଏହା ମନକୁ ଉଚ୍ଚ କରିବା ଏବଂ ସବୁ ବୋଝକୁ ହାଲୁକା କରିବା। ଖୋଜିଲି ହେଲେ ପରୀକ୍ଷାକୁ ସାମ୍ନା କଲିନି ସୂର୍ଯ୍ୟ ଆମ କ୍ରୋଧକୁ ହରାଇଦେଲେ।

ଆମେ ଏହାକୁ ଭଲଭାବରେ ସାମ୍ନା କଲୁ, ମୁଁ ଭାବୁଛି ଦେଖୁଲୁ ଏବଂ ନକଲି ଚିଠା ସବୁ ପକାଇ ଦେଲୁ ଚାଷୀମାନେ ଯାହା ବିକିଥିଲେ କିଣିଥିଲେ ତାହାର ସାପ ଆଉ ଛେଳିମାନଙ୍କର ରାସ୍ତା। ତିନୋଟି ସହର ଯେଉଁଠି ଜଣେ ରଷି ଶିଖାଇଥିଲେ।

କିନ୍ତୁ ଯେତେବେଳେ ବିଭେଦ ହେଲା କେମିତି ମରୁରାସ୍ତା ପାର୍ ହେବାକୁ ହେବ, ଆମେ ଜଣେ ବନ୍ଧୁ ହରାଇଲୁ ଯାହାର ସୁନ୍ଦର ରଚନା ଆମ ଶ୍ରେଣୀର ସବୁଠାରୁ ଶ୍ରେଷ୍ଠ ଥିଲା। ଆମ ଉପରେ ଏକ ଅନ୍ଧାର ପଡ଼ିଲା ଆଉ ବଢ଼ିଚାଲିଲା।

ସୂର୍ଯ୍ୟ ହରାଇଦେବା କାହାର ପ୍ରତୀକ?

Options:

- 1) ଏହା ସେମାନଙ୍କର ଶାନ୍ତି ସହ ମେଳଖାଉଛି
- 2) ଏହା ସେମାନଙ୍କର ଲକ୍ଷ୍ୟ ସହ ମେଳଖାଉଛି
- 3) ଏହା ସେମାନଙ୍କର କ୍ରୋଧ ସହ ମେଳଖାଉଛି
- 4) ଏହା ସେମାନଙ୍କର ଖୁସି ସହ ମେଳଖାଉଛି

Correct Answer: 3) ଏହା ସେମାନଙ୍କର କ୍ରୋଧ ସହ ମେଳଖାଉଛି

Candidate Answer: 4) ଏହା ସେମାନଙ୍କର ଖୁସି ସହ ମେଳଖାଉଛି

QID : 661 - The sentence below has been divided into three parts. Select the part of the sentence that has an error. If the sentence has no error, select the option 'No Error'.

The skit is prepared by / one of my students and / it is really funny and enjoyable.

Options:

- 1) The skit is prepared by
- 2) one of my students and
- 3) it is really funny and enjoyable.
- 4) No Error

Correct Answer: 4) No Error

Candidate Answer: 1) The skit is prepared by

QID : 662 - Select the word segment that substitutes (replaces) the highlighted word segment correctly and completes the sentence meaningfully. Select the option 'no correction required' if the sentence is correct as given.

Divit (**used for love playing**) football in the corridor.

Options:

- 1) used to love to playing
- 2) used to love playing
- 3) used to loves playing
- 4) No correction required

Correct Answer: 2) used to love playing

Candidate Answer: 2) used to love playing

QID : 663 - A sentence has been given in Active/Passive voice. Out of the four alternatives suggested, select the one which best expresses the same sentence in Passive/Active voice.

The metal beams were corroded by the saltwater.

Options:

- 1) The saltwater corroded the metal beams.
- 2) The saltwater corroding the metal beams.
- 3) The saltwater was corrodese the metal beams.
- 4) The saltwater corrodese the metal beams.

Correct Answer: 1) The saltwater corroded the metal beams.

Candidate Answer: 2) The saltwater corroding the metal beams.

QID : 664 - Select the most appropriate word that fills in the blank correctly and completes the sentence meaningfully.

Mom was _____ at my sister yesterday to _____ her homework.

Options:

- 1) screaming,finish
- 2) screamed ,finish
- 3) screamed ,finishing
- 4) screamed ,finished

Correct Answer: 1) screaming,finish

Candidate Answer: 2) screamed ,finish

QID : 665 - Select the most appropriate word that fills in the blank correctly and completes the sentence meaningfully.

Gunjun _____ the A.C.s off in the auditorium this morning.

Options:

- 1) switching
- 2) switch
- 3) switched
- 4) switches

Correct Answer: 3) switched

Candidate Answer: 3) switched

QID : 666 - Select the word that is closest in meaning (**SYNONYM**) to the word given below.

APPREHENSIVE

Options:

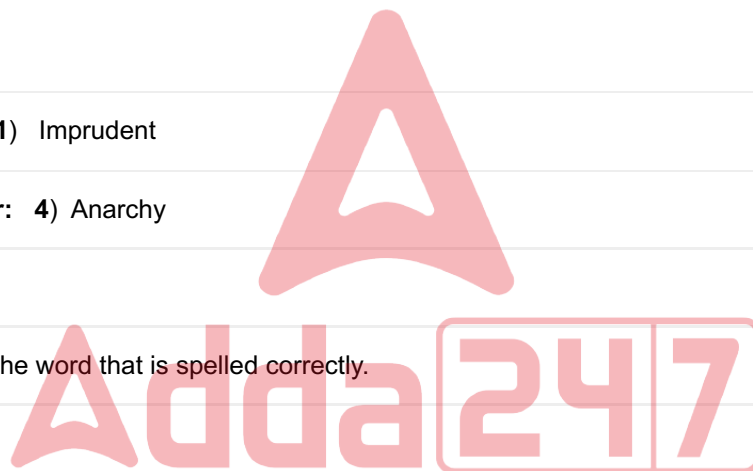
- 1) doubtful
- 2) arduous
- 3) upbeat
- 4) angst

Correct Answer: 1) doubtful**Candidate Answer:** 2) arduous**QID : 667** - Select the word that is opposite in meaning (**ANTONYM**) to the word given below.**DISCREET****Options:**

- 1) Imprudent
- 2) Delirious
- 3) Inclination
- 4) Anarchy

Correct Answer: 1) Imprudent**Candidate Answer:** 4) Anarchy**QID : 668** - Select the word that is spelled correctly.**Options:**

- 1) Notoreous
- 2) Notorus
- 3) Notereus
- 4) Notorious

Correct Answer: 4) Notorious**Candidate Answer:** 2) Notorus**QID : 669** - Select the most appropriate 'one word ' for the expressions given below.**Renouncing a belief or doctrine**

Options:

- 1) Ascetic
- 2) Abnegation
- 3) Atheist
- 4) Agnostic

Correct Answer: 2) Abnegation

Candidate Answer: 1) Ascetic

QID : 670 - Select the option that best expresses the meaning of the idiom or phrase given below.

Taste of your own medicine**Options:**

- 1) to have some secret information about someone
- 2) something happens to you, that you have done to someone else
- 3) to do something badly or cheaply
- 4) to be active without achieving any worthwhile result

Correct Answer: 2) something happens to you, that you have done to someone else

Candidate Answer: 1) to have some secret information about someone

QID : 671 - Who was known as 'the father of early childhood education'?

Options:

- 1) B.F. Skinner
- 2) Jean-Jacques Rousseau
- 3) Charles Lamb
- 4) Howard Gardener

Correct Answer: 2) Jean-Jacques Rousseau

Candidate Answer: 2) Jean-Jacques Rousseau

QID : 672 - The Progressive Education Association was founded in which year?

Options:

- 1) 1956
- 2) 1980
- 3) 1919
- 4) 1936

Correct Answer: 3) 1919

Candidate Answer: 2) 1980

QID : 673 - The discrimination based on gender in workplaces is known as _____.

Options:

- 1) Gender roles
- 2) Gender stereotyping
- 3) Gender socialization
- 4) Occupational sexism

Correct Answer: 4) Occupational sexism

Candidate Answer: 2) Gender stereotyping

QID : 674 - How many factors influence the process of socialization?

Options:

- 1) 6
- 2) 4
- 3) 3
- 4) 9

Correct Answer: 2) 4

Candidate Answer: 2) 4

QID : 675 - Which one these is not an agent of socialization?

Options:

- 1) The school
- 2) The family
- 3) Mass media
- 4) Books

Correct Answer: 4) Books

Candidate Answer: 4) Books

QID : 676 - Who proposed the 8 stages of Socialization?

Options:

- 1) Erik Erikson
- 2) Carl Rogers
- 3) Edward Thorndike
- 4) Kurt Lewin

Correct Answer: 1) Erik Erikson

Candidate Answer: 2) Carl Rogers

QID : 677 - The stage in which a person faces many changes in personal, biological and social self is known as _____.

Options:

- 1) Pre-school stage
- 2) Adolescence stage
- 3) Young adulthood stage
- 4) Later childhood stage

Correct Answer: 2) Adolescence stage

Candidate Answer: 2) Adolescence stage

QID : 678 - Maturity stage starts from which age in a person?

Options:

- 1) 35-65 years of age
- 2) 6-12 years of age
- 3) 65+ years of age
- 4) 18-35 years of age

Correct Answer: 3) 65+ years of age

Candidate Answer: 4) 18-35 years of age

QID : 679 - How many principles of Child Development are there?

Options:

- 1) 2
- 2) 3
- 3) 8
- 4) 6

Correct Answer: 4) 6

Candidate Answer: 4) 6

QID : 680 - The Expectancy theory was developed by _____.

Options:

- 1) Victor Vroom
- 2) Abraham Maslow
- 3) Wilhelm Wundt
- 4) Richard Lazarus

Correct Answer: 1) Victor Vroom

Candidate Answer: 1) Victor Vroom

QID : 681 - Read the passage carefully and answer the questions that follow choosing the correct alternatives.

Everybody thinks that tulips come from Holland. Actually, Tulips are native to Central Asia and Turkey. In the 16th Century they were brought to Holland from Turkey, and quickly became widely popular. Today Tulips are cultivated in Holland in great numbers and in huge fields. The botanical name for tulips, Tulipa, is derived from the Turkish word "tulbend" or "turban", which the flower resembles. It's considered as the King of Bulbs. Cultivation of the tulip began in Persia, probably in the 10th century. Sultan Ahmet III maintained famous tulip gardens in the summer highland pastures at Spil Dağı above the town of Manisa. Although it is unknown who first brought the tulip to Northwestern Europe, the most widely accepted story is that it was Oghier Ghislain de Busbecq, an ambassador for Emperor Ferdinand I to Suleyman the Magnificent. Tulips spread rapidly across Europe and more opulent varieties such as double tulips were already known in Europe by the early 17th century. Nouveaux riches seeking wealthy displays embraced the exotic plant market, especially in the Low Countries where gardens had become fashionable. A craze for bulbs soon grew in France, where in the early 17th century, entire properties were exchanged as payment for a single tulip bulb. The value of the flower gave it a special 'aura' of mystique, and numerous publications describing varieties in lavish garden manuals were published, cashing in on the value of the flower. An export business was built up in France, supplying Dutch, Flemish, German and English buyers. The trade drifted slowly from the French to the Dutch and is thought to have sparked the infamous tulip mania in Holland. Between 1634 and 1637, the enthusiasm for the new flowers in Holland triggered a speculative frenzy now known as the "Tulip Mania" that eventually led to the collapse of the market three years later. Tulip bulbs had become so expensive that they were treated as a form of currency, or rather, as futures, forcing the Dutch government to introduce trading restrictions on the bulbs. Around this time, the ceramic tulipiere was devised for the display of cut flowers stem by stem. Vases and bouquets, usually including tulips, often appeared in Dutch still-life painting. To this day, tulips are associated with the Netherlands, and the cultivated forms of the tulip are often called "Dutch tulips." The Netherlands has the world's largest permanent display of tulips at the Keukenhof.

Where is the world's largest permanent display of tulips?

Options:

- 1) Keukenhof
- 2) Turkey
- 3) Antalya
- 4) British Columbia

Correct Answer: 1) Keukenhof

Candidate Answer: 2) Turkey

QID : 682 - Read the passage carefully and answer the questions that follow choosing the correct alternatives.

Everybody thinks that tulips come from Holland. Actually, Tulips are native to Central Asia and Turkey. In the 16th Century they were brought to Holland from Turkey, and quickly became widely popular. Today Tulips are cultivated in Holland in great numbers and in huge fields. The botanical name for tulips, Tulipa, is derived from the Turkish word "tulbend" or "turban", which the flower resembles. It's considered as the King of Bulbs. Cultivation of the tulip began in Persia, probably in the 10th century. Sultan Ahmet III maintained famous tulip gardens in the summer highland pastures at Spil Dağı above the town of Manisa. Although it is unknown who first brought the tulip to Northwestern Europe, the most widely accepted story is that it was Oghier Ghislain de Busbecq, an ambassador for Emperor Ferdinand I to Suleyman the Magnificent. Tulips spread rapidly across Europe and more opulent varieties such as double tulips were already known in Europe by the early 17th century. Nouveaux riches seeking wealthy displays embraced the exotic plant market, especially in the Low Countries where gardens had become fashionable. A craze for bulbs soon grew in France, where in the early 17th century, entire properties were exchanged as payment for a single tulip bulb. The value of the flower gave it a special 'aura' of mystique, and numerous publications describing varieties in lavish garden manuals were published, cashing in on the value of the flower. An export business was built up in France, supplying Dutch, Flemish, German and English buyers. The trade drifted slowly from the French to the Dutch and is thought to have sparked the infamous tulip mania in Holland. Between 1634 and 1637, the enthusiasm for the new flowers in Holland triggered a speculative frenzy now known as the "Tulip Mania" that eventually led to the collapse of the market three years later. Tulip bulbs had become so expensive that they were treated as a form of currency, or rather, as futures, forcing the Dutch government to introduce trading restrictions on the bulbs. Around this time, the ceramic tulipiere was devised for the display of cut flowers stem by stem. Vases and bouquets, usually including tulips, often appeared in Dutch still-life painting. To this day, tulips are associated with the Netherlands, and the cultivated forms of the tulip are often called "Dutch tulips." The Netherlands has the world's largest permanent display of tulips at the Keukenhof.

Which of these people brought the tulips to Europe?

Options:

- 1) Suleyman the Magnificent
- 2) Oghier Ghislain de Busbecq
- 3) Emperor Ferdinand I
- 4) Sultan Ahmet III

Correct Answer: 2) Oghier Ghislain de Busbecq

Candidate Answer: 1) Suleyman the Magnificent

QID : 683 - Read the passage carefully and answer the questions that follow choosing the correct alternatives.

Everybody thinks that tulips come from Holland. Actually, Tulips are native to Central Asia and Turkey. In the 16th Century they were brought to Holland from Turkey, and quickly became widely popular. Today Tulips are cultivated in Holland in great numbers and in huge fields. The botanical name for tulips, Tulipa, is derived from the Turkish word "tulbend" or "turban", which the flower resembles. It's considered as the King of Bulbs. Cultivation of the tulip began in Persia, probably in the 10th century. Sultan Ahmet III maintained famous tulip gardens in the summer highland pastures at Spil Dağı above the town of Manisa. Although it is unknown who first brought the tulip to Northwestern Europe, the most widely accepted story is that it was Oghier Ghislain de Busbecq, an ambassador for Emperor Ferdinand I to Suleyman the Magnificent. Tulips spread rapidly across Europe and more opulent varieties such as double tulips were already known in Europe by the early 17th century. Nouveaux riches seeking wealthy displays embraced the exotic plant market, especially in the Low Countries where gardens had become fashionable. A craze for bulbs soon grew in France, where in the early 17th century, entire properties were exchanged as payment for a single tulip bulb. The value of the flower gave it a special 'aura' of mystique, and numerous publications describing varieties in lavish garden manuals were published, cashing in on the value of the flower. An export business was built up in France, supplying Dutch, Flemish, German and English buyers. The trade drifted slowly from the French to the Dutch and is thought to have sparked the infamous tulip mania in Holland. Between 1634 and 1637, the enthusiasm for the new flowers in Holland triggered a speculative frenzy now known as the "Tulip Mania" that eventually led to the collapse of the market three years later. Tulip bulbs had become so expensive that they were treated as a form of currency, or rather, as futures, forcing the Dutch government to introduce trading restrictions on the bulbs. Around this time, the ceramic tulipiere was devised for the display of cut flowers stem by stem. Vases and bouquets, usually including tulips, often appeared in Dutch still-life painting. To this day, tulips are associated with the Netherlands, and the cultivated forms of the tulip are often called "Dutch tulips." The Netherlands has the world's largest permanent display of tulips at the Keukenhof.

The name 'tulip' is derived from which of these words?

Options:

- 1) turban
- 2) bulb
- 3) flower
- 4) royal

Correct Answer: 1) turban

Candidate Answer: 3) flower

QID : 684 - Read the passage carefully and answer the questions that follow choosing the correct alternatives.

Everybody thinks that tulips come from Holland. Actually, Tulips are native to Central Asia and Turkey. In the 16th Century they were brought to Holland from Turkey, and quickly became widely popular. Today Tulips are cultivated in Holland in great numbers and in huge fields. The botanical name for tulips, Tulipa, is derived from the Turkish word "tulbend" or "turban", which the flower resembles. It's considered as the King of Bulbs. Cultivation of the tulip began in Persia, probably in the 10th century. Sultan Ahmet III maintained famous tulip gardens in the summer highland pastures at Spil Dağı above the town of Manisa. Although it is unknown who first brought the tulip to Northwestern Europe, the most widely accepted story is that it was Oghier Ghislain de Busbecq, an ambassador for Emperor Ferdinand I to Suleyman the Magnificent. Tulips spread rapidly across Europe and more opulent varieties such as double tulips were already known in Europe by the early 17th century. Nouveaux riches seeking wealthy displays embraced the exotic plant market, especially in the Low Countries where gardens had become fashionable. A craze for bulbs soon grew in France, where in the early 17th century, entire properties were exchanged as payment for a single tulip bulb. The value of the flower gave it a special 'aura' of mystique, and numerous publications describing varieties in lavish garden manuals were published, cashing in on the value of the flower. An export business was built up in France, supplying Dutch, Flemish, German and English buyers. The trade drifted slowly from the French to the Dutch and is thought to have sparked the infamous tulip mania in Holland. Between 1634 and 1637, the enthusiasm for the new flowers in Holland triggered a speculative frenzy now known as the "Tulip Mania" that eventually led to the collapse of the market three years later. Tulip bulbs had become so expensive that they were treated as a form of currency, or rather, as futures, forcing the Dutch government to introduce trading restrictions on the bulbs. Around this time, the ceramic tulipiere was devised for the display of cut flowers stem by stem. Vases and bouquets, usually including tulips, often appeared in Dutch still-life painting. To this day, tulips are associated with the Netherlands, and the cultivated forms of the tulip are often called "Dutch tulips." The Netherlands has the world's largest permanent display of tulips at the Keukenhof.

Which of these was not a happening that took place during the "Tulip Mania"?

Options:

- 1) Tulips were treated as a form of currency
- 2) Dutch government to introduce trading restrictions on the bulbs
- 3) ceramic tulipiere was devised for the display of cut flowers stem by stem
- 4) People planted gardens with hundreds of Tulips

Correct Answer: 4) People planted gardens with hundreds of Tulips

Candidate Answer: 1) Tulips were treated as a form of currency

QID : 685 - Read the passage carefully and answer the questions that follow choosing the correct alternatives.

Everybody thinks that tulips come from Holland. Actually, Tulips are native to Central Asia and Turkey. In the 16th Century they were brought to Holland from Turkey, and quickly became widely popular. Today Tulips are cultivated in Holland in great numbers and in huge fields. The botanical name for tulips, Tulipa, is derived from the Turkish word "tulbend" or "turban", which the flower resembles. It's considered as the King of Bulbs. Cultivation of the tulip began in Persia, probably in the 10th century. Sultan Ahmet III maintained famous tulip gardens in the summer highland pastures at Spil Dağı above the town of Manisa. Although it is unknown who first brought the tulip to Northwestern Europe, the most widely accepted story is that it was Oghier Ghislain de Busbecq, an ambassador for Emperor Ferdinand I to Suleyman the Magnificent. Tulips spread rapidly across Europe and more opulent varieties such as double tulips were already known in Europe by the early 17th century. Nouveaux riches seeking wealthy displays embraced the exotic plant market, especially in the Low Countries where gardens had become fashionable. A craze for bulbs soon grew in France, where in the early 17th century, entire properties were exchanged as payment for a single tulip bulb. The value of the flower gave it a special 'aura' of mystique, and numerous publications describing varieties in lavish garden manuals were published, cashing in on the value of the flower. An export business was built up in France, supplying Dutch, Flemish, German and English buyers. The trade drifted slowly from the French to the Dutch and is thought to have sparked the infamous tulip mania in Holland. Between 1634 and 1637, the enthusiasm for the new flowers in Holland triggered a speculative frenzy now known as the "Tulip Mania" that eventually led to the collapse of the market three years later. Tulip bulbs had become so expensive that they were treated as a form of currency, or rather, as futures, forcing the Dutch government to introduce trading restrictions on the bulbs. Around this time, the ceramic tulipiere was devised for the display of cut flowers stem by stem. Vases and bouquets, usually including tulips, often appeared in Dutch still-life painting. To this day, tulips are associated with the Netherlands, and the cultivated forms of the tulip are often called "Dutch tulips." The Netherlands has the world's largest permanent display of tulips at the Keukenhof.

Who among these maintained tulip gardens in the summer highland pastures at Spil Dağı?

Options:

- 1) Suleyman the Magnificent
- 2) Oghier Ghislain de Busbecq
- 3) Sultan Ahmet III
- 4) Emperor Ferdinand I

Correct Answer: 3) Sultan Ahmet III

Candidate Answer: 1) Suleyman the Magnificent

QID : 686 - Read the poem carefully and answer the questions that follow choosing the correct alternatives.

Gathering Leaves
BY ROBERT FROST

Spades take up leaves
No better than spoons,
And bags full of leaves
Are light as balloons.

I make a great noise
Of rustling all day
Like rabbit and deer
Running away.

But the mountains I raise
Elude my embrace,
Flowing over my arms
And into my face.

I may load and unload
Again and again
Till I fill the whole shed,
And what have I then?
Next to nothing for weight,
And since they grew duller
From contact with earth,
Next to nothing for color.

Next to nothing for use,
But a crop is a crop,
And who's to say where
The harvest shall stop?

What is the poet filling up the leaves into?

Options:

- 1) A sack
- 2) A box
- 3) A house
- 4) A shed

Correct Answer: 4) A shed

Candidate Answer: 1) A sack

QID : 687 - Read the poem carefully and answer the questions that follow choosing the correct alternatives.

Gathering Leaves
BY ROBERT FROST

Spades take up leaves
No better than spoons,
And bags full of leaves
Are light as balloons.

I make a great noise
Of rustling all day
Like rabbit and deer
Running away.

But the mountains I raise
Elude my embrace,
Flowing over my arms
And into my face.

I may load and unload
Again and again
Till I fill the whole shed,
And what have I then?
Next to nothing for weight,
And since they grew duller
From contact with earth,
Next to nothing for color.

Next to nothing for use,
But a crop is a crop,
And who's to say where
The harvest shall stop?

The leaves make a rustling noise like which animal?

Options:

- 1) Rabbits
- 2) Rats
- 3) Cats
- 4) Sheep

Correct Answer: 1) Rabbits

Candidate Answer: 1) Rabbits

QID : 688 - Read the poem carefully and answer the questions that follow choosing the correct alternatives.

Gathering Leaves
BY ROBERT FROST

Spades take up leaves
No better than spoons,
And bags full of leaves
Are light as balloons.

I make a great noise
Of rustling all day
Like rabbit and deer
Running away.

But the mountains I raise
Elude my embrace,
Flowing over my arms
And into my face.

I may load and unload
Again and again
Till I fill the whole shed,
And what have I then?
Next to nothing for weight,
And since they grew duller
From contact with earth,
Next to nothing for color.

Next to nothing for use,
But a crop is a crop,
And who's to say where
The harvest shall stop?

What does the poet compare bags full of leaves to?

Options:

- 1) A stone
- 2) A balloon
- 3) A feather
- 4) A scarf

Correct Answer: 2) A balloon

Candidate Answer: 2) A balloon

QID : 689 - Read the poem carefully and answer the questions that follow choosing the correct alternatives.

Gathering Leaves
BY ROBERT FROST

Spades take up leaves
No better than spoons,
And bags full of leaves
Are light as balloons.

I make a great noise
Of rustling all day
Like rabbit and deer
Running away.

But the mountains I raise
Elude my embrace,
Flowing over my arms
And into my face.

I may load and unload
Again and again
Till I fill the whole shed,
And what have I then?
Next to nothing for weight,
And since they grew duller
From contact with earth,
Next to nothing for color.

Next to nothing for use,
But a crop is a crop,
And who's to say where
The harvest shall stop?

Why did the leaves become duller?

Options:

- 1) because of contact with the river
- 2) because of contact with the tree
- 3) because of contact with the earth
- 4) because of contact with the rocks

Correct Answer: 3) because of contact with the earth

Candidate Answer: 3) because of contact with the earth

QID : 690 - Read the poem carefully and answer the questions that follow choosing the correct alternatives.

Gathering Leaves
BY ROBERT FROST

Spades take up leaves
No better than spoons,
And bags full of leaves
Are light as balloons.

I make a great noise
Of rustling all day
Like rabbit and deer
Running away.

But the mountains I raise
Elude my embrace,
Flowing over my arms
And into my face.

I may load and unload
Again and again
Till I fill the whole shed,
And what have I then?
Next to nothing for weight,
And since they grew duller
From contact with earth,
Next to nothing for color.

Next to nothing for use,
But a crop is a crop,
And who's to say where
The harvest shall stop?

Who eludes the embrace of the poet?

Options:

- 1) Rabbits
- 2) River
- 3) Mud
- 4) Mountains

Correct Answer: 4) Mountains

Candidate Answer: 4) Mountains

QID : 691 - _____ is considered as the major problem in teaching mathematics.

ଗଣିତ ଶିକ୍ଷା ଦେବାର କ୍ଷେତ୍ରରେ _____ କିଏ ପ୍ରଧାନ ସମସ୍ୟା ହିସାବରେ ବିବେଚନା କରା ହୁଏ।

Options:

- 1) Classroom operations
ଶ୍ରେଣିକକ୍ଷ କାର୍ଯ୍ୟକ୍ରମ
- 2) Knowledge of teaching methods
ଶିକ୍ଷଣ ପଦ୍ଧତି ଜ୍ଞାନ
- 3) Use of mathematical tools
ଗାଣିତିକ ସରଞ୍ଜାମ ବ୍ୟବହାର
- 4) No option is correct
କୌଣସି ବିକଳ୍ପ ଠିକ ନୁହେଁ

Correct Answer: 4) No option is correct
କୌଣସି ବିକଳ୍ପ ଠିକ ନୁହେଁ

Candidate Answer: 2) Knowledge of teaching methods
ଶିକ୍ଷଣ ପଦ୍ଧତି ଜ୍ଞାନ

QID : 692 - Which method of mathematics is used to solve geometrical logical problems?

ଗୁଣିତ ଯୌଗିକ ସମସ୍ତା ସମାଧାନ ଗଣିତର କେଉଁଟି ପଦ୍ଧତି ବ୍ୟବହୃତ ହୁଏ?

Options:

- 1) Summative
ସମେନାଟିବ
- 2) Deductive
ଡିଡକ୍ଟିଭ
- 3) Analysis
ବିଶ୍ଳେଷଣ
- 4) Inductive
ଇଣ୍ଡକ୍ଟିଭ

Correct Answer: 2) Deductive
ଡିଡକ୍ଟିଭ

Candidate Answer: 2) Deductive
ଡିଡକ୍ଟିଭ

QID : 693 - In Mathematics, 'Representation' does not refer to _____.

ଗଣିତରେ , "ପ୍ରତିନିଧିତ୍ଵ" _____ କୁ ବୁଝାଏ ନାହିଁ ।

Options:

- 1) expressing the given data through graphs
ଗ୍ରାଫରେ ମାଧ୍ୟମରେ ପ୍ରଦତ୍ତ ତଥ୍ୟ ପ୍ରକାଶ କରା
- 2) expressing the number sequence through geometrical patterns
ଛାମୁଡ଼ିକ ନିଦର୍ଶନଗୁଡ଼ିକର ମାଧ୍ୟମରେ ସଂଖ୍ୟା କ୍ରମଟି ପ୍ରକାଶ କରା
- 3) expressing an important geometrical result as a theorem
ଉପପାଦ୍ୟ ହିସାବରେ ଏକଟି ଗୁରୁତ୍ୱପୂର୍ଣ୍ଣ ଛାମୁଡ଼ିକ ଫଳାଫଳ ପ୍ରକାଶ କରା
- 4) expressing the relation between two variable as an equation
ଏକ ସମୀକରଣ ହିସାବରେ ଦୁଇ ଭାରିଏବଲ ମଧ୍ୟରେ ସମ୍ପର୍କ ପ୍ରକାଶ କରା

Correct Answer: 3) expressing an important geometrical result as a theorem
ଉପପାଦ୍ୟ ହିସାବରେ ଏକଟି ଗୁରୁତ୍ୱପୂର୍ଣ୍ଣ ଛାମୁଡ଼ିକ ଫଳାଫଳ ପ୍ରକାଶ କରା


Candidate Answer: 4) expressing the relation between two variable as an equation
ଏକ ସମୀକରଣ ହିସାବରେ ଦୁଇ ଭାରିଏବଲ ମଧ୍ୟରେ ସମ୍ପର୍କ ପ୍ରକାଶ କରା

QID : 694 - Community Mathematics is interconnected with which of the following?

କମ୍ୟୁନିଟି ଗଣିତ ନିମ୍ନଲିଖିତଗୁଡ଼ିକ ର ମଧ୍ୟରେ ଏକ ସହିତ ସଂଯୁକ୍ତ?

Options:

- 1) Integration
ଇନ୍ଟିଗ୍ରେଶନ
- 2) Trigonometry
ତ୍ରିକୋଣମିତି
- 3) Arithmetic
ପାଟୀଗଣିତ
- 4) No option is correct
କୌଣସି ବିକଳ୍ପ ଠିକ ନୁହେଁ



Correct Answer: 3) Arithmetic
ପାଟୀଗଣିତ

Candidate Answer: 4) No option is correct
କୌଣସି ବିକଳ୍ପ ଠିକ ନୁହେଁ

QID : 695 - _____ is essential to do away with the problems of teaching mathematics.

ଗଣିତ ଶିକ୍ଷକବାର ସମସ୍ତାଗୁଡ଼ିକ ଦୂର କରିବା _____ ଜରୁରୀ।

Options:

1) Practicing all subjects with the same teaching method

ସମାନ ପାଠଦାନ ପଦ୍ଧତିରେ ସମସ୍ତ ବିଷୟ ଅନୁଶୀଳନ କରା

2) Appropriate nature of the teacher

ଶିକ୍ଷକର ଉପଯୁକ୍ତ ପ୍ରକୃତି

3) To include group discussion in teaching

ପାଠଦାନର କ୍ଷେତ୍ର ଗ୍ରୁପ ଆଲୋଚନା ଅନ୍ତର୍ଭୁକ୍ତ କରା

4) No option is correct

କୌଣସି ବିକଳ୍ପ ଠିକ ନୁହେଁ

Correct Answer: 2) Appropriate nature of the teacher

ଶିକ୍ଷକର ଉପଯୁକ୍ତ ପ୍ରକୃତି

Candidate Answer: 1) Practicing all subjects with the same teaching method

ସମାନ ପାଠଦାନ ପଦ୍ଧତିରେ ସମସ୍ତ ବିଷୟ ଅନୁଶୀଳନ କରା

QID : 696 - Building a mathematical wall in the classroom helps students _____.

ଶ୍ରେଣୀକକ୍ଷରେ ଗାଣିତିକ ପ୍ରାଚୀର ତିଆରିକରା ଶିକ୍ଷାର୍ଥୀର _____ ସହାୟତା କରେ।

Options:

1) to share their views and problem with others and show their creative ability

ଅନ୍ୟର ସାଥେ ତାର ମତାମତ ଏବଂ ସମସ୍ତା ଭାଗ କରେ ଏବଂ ତାର ସୃଜନଶୀଳ ଦକ୍ଷତା ଦେଖାରେ

2) to understand difficult concepts in mathematics

ଗଣିତର ଜଟିଳ ଧାରଣା ବୁଝରେ

3) to know their position in the class

କ୍ଲାସରେ ତାର ଅବସ୍ଥାନ ଜାନରେ

4) to learn all the formulae of geometry

ଜ୍ଞାନିତିର ସମସ୍ତ ସୂତ୍ର ଶିଖିବାରେ

Correct Answer: 2) to understand difficult concepts in mathematics

ଗଣିତର ଜଟିଳ ଧାରଣା ବୁଝରେ

Candidate Answer: 4) to learn all the formulae of geometry

ଜ୍ଞାନିତିର ସମସ୍ତ ସୂତ୍ର ଶିଖିବାରେ

QID : 697 - Which of the following is not a problem related to teaching mathematics?

ନିମ୍ନର କେଉଁଟି ଗଣିତ ପଢ଼େଇବାର ସହିତ ସମ୍ପର୍କିତ ନୁହେଁ?

Options:

- 1) Physical and mental health of students
ଶିକ୍ଷାର୍ଥୀର ଶାରୀରିକ ଓ ମାନସିକ ସ୍ୱାସ୍ଥ୍ୟ
- 2) Inadequate subject-related knowledge of the teacher
ଶିକ୍ଷକର ପର୍ଯ୍ୟାପ୍ତ ବିଷୟ ସମ୍ପର୍କିତ ଜ୍ଞାନ
- 3) Handling the active students in the class
କ୍ଲାସ୍‌ରେ ସକ୍ରିୟ ଶିକ୍ଷାର୍ଥୀର ପରିଚାଳନା କରିବା
- 4) No option is correct
କୌଣସି ବିକଳ୍ପ ସଠିକ ନୁହେଁ

Correct Answer: 4) No option is correct
କୌଣସି ବିକଳ୍ପ ସଠିକ ନୁହେଁ


Candidate Answer: 3) Handling the active students in the class
କ୍ଲାସ୍‌ରେ ସକ୍ରିୟ ଶିକ୍ଷାର୍ଥୀର ପରିଚାଳନା କରିବା

QID : 698 - Ram was asked to express 7 metres in terms of centimetres. His answer was 70 centimetres. What type of error is it?

ରାମକୁ 7 ମିଟରକୁ ସେଣ୍ଟିମିଟର ରେ ପ୍ରକାଶ କରିବାକୁ କୁହାଯାଏ । ତାର ଉତ୍ତର ଥିଲା 70 ସେଣ୍ଟିମିଟର । ଏତି କେଉଁ ଧରଣର ତ୍ରୁଟି?

Options:

- 1) Wrong algorithm
ଭୁଲ ଆକାରବଦନ
- 2) Basic fact error
ବେସିକ ଫ୍ୟାକ୍ଟ ତ୍ରୁଟି
- 3) Incorrect operation
ଭୁଲ ଅପରେଶନ
- 4) Regrouping error
ପୁନରାୟ ଗୁପିଂ ତ୍ରୁଟି



Correct Answer: 2) Basic fact error
ବେସିକ ଫ୍ୟାକ୍ଟ ତ୍ରୁଟି

Candidate Answer: 2) Basic fact error
ବେସିକ ଫ୍ୟାକ୍ଟ ତ୍ରୁଟି

QID : 699 - The mathematics curriculum must develop a sense of _____.

ଗଣିତର ପାଠ୍ୟକ୍ରମଟି ଅବଶ୍ୟକ _____ ର ବୋଧ ତିଆରି କରିବା ହବ ।

Options:

- 1) motivation
ପ୍ରେରଣା
- 2) self confidence
ଆତ୍ମବିଶ୍ୱାସ
- 3) understanding
ବୋଧଶକ୍ତି
- 4) All options are correct
ସମସ୍ତ ବିକଳ୍ପ ସଠିକ

Correct Answer: 4) All options are correct
ସମସ୍ତ ବିକଳ୍ପ ସଠିକ

Candidate Answer: 4) All options are correct
ସମସ୍ତ ବିକଳ୍ପ ସଠିକ

QID : 700 - Which of the following is/are the forms of Gallery walk in mathematics?

- I. Teacher observation
II. Small group problem solving

ନିମ୍ନର କଣଟି ଗଣିତର ଗ୍ୟାଲରୀ ଓୟାକର ଫର୍ମ/ଗୁଡ଼ି ?

- I. ଶିକ୍ଷକ ପର୍ଯ୍ୟବେକ୍ଷଣ
II ଛୋଟ ଗ୍ରୁପ ସମସ୍ମା ସମାଧାନ

Options:

- 1) Only I
କେବଳ I
- 2) Only II
କେବଳ II
- 3) Both I and II
I ଏବଂ II ଉଭୟ
- 4) No option is correct
କୌଣସି ବିକଳ୍ପ ସଠିକ ନୁହେଁ



Correct Answer: 3) Both I and II
I ଏବଂ II ଉଭୟ

Candidate Answer: 3) Both I and II
I ଏବଂ II ଉଭୟ

QID : 701 - What is the unit digit of $(19)^{365} \times (23)^{48} \times (65)^{27}$?

$(19)^{365} \times (23)^{48} \times (65)^{27}$ ର ଏକକ ସଂଖ୍ୟାଟି କେତେ?

Options:

- 1) 1
- 2) 9
- 3) 5
- 4) 3

Correct Answer: 3) 5

Candidate Answer: 4) 3

QID : 702 - What is the value of $1 + 2 + 3 + 4 + 5 + \dots + 14$?

$1 + 2 + 3 + 4 + 5 + \dots + 14$ ର ମାନ କେତେ?

Options:

- 1) 115
- 2) 107
- 3) 105
- 4) 117

Correct Answer: 3) 105

Candidate Answer: 3) 105

QID : 703 -

If $x = \sqrt{3 - \sqrt{4}}$ and $y = \sqrt{3 + \sqrt[3]{-8}}$, then what is the value of $(x - y)$?

ଯଦି $x = \sqrt{3 - \sqrt{4}}$ ଏବଂ $y = \sqrt{3 + \sqrt[3]{-8}}$ ହୁଏ, ତେବେ $(x - y)$ ର ମାନ କେତେ?

Options:

- 1) 1
- 2) $\sqrt{3}$
- 3) 0
- 4) $\sqrt{7}$

Correct Answer: 3) 0

Candidate Answer: 2) $\sqrt{3}$

QID : 704 - Side of a cube is 3 cm. What is the lateral surface area (in cm^2) of the cube?

ଏକଟି ଘନକ୍ଷେତ୍ରର ପାଖଟି 3 ସେମି। କରତାରେ ପାର୍ଶ୍ୱୀୟ ପୃଷ୍ଠର କ୍ଷେତ୍ରଫଳ (ସେମି²) କେତେ?

Options:

1) 12

2) 36

3) 48

4) 54

Correct Answer: 2) 36

Candidate Answer: 4) 54

QID : 705 - Half of the perimeter of a rectangle is 24 cm. If the breadth of the rectangle is one third of its length, then what is the area (in cm^2) of the rectangle?

ଏକଟି ଆୟତକ୍ଷେତ୍ରର ଘେର ଅର୍ଧେକ 24 ସେମି। ଯଦି ଆୟତକ୍ଷେତ୍ରଟିର ପ୍ରସ୍ଥ ଦୈର୍ଘ୍ୟର ଏକ ତୃତୀୟାଂଶ ହୁଏ, ତେବେ ଆୟତକ୍ଷେତ୍ରର ଆୟତନ (ସେମି²) କେତେ?

Options:

1) 108

2) 54

3) 48

4) 144

Correct Answer: 1) 108

Candidate Answer: 1) 108

QID : 706 - Radius of a hemisphere is 4.2 cm. What is the volume (in cm^3) of this hemisphere?

ଏକଟି ଗୋଲାର୍ଧର ବ୍ୟାସାର୍ଦ୍ଧ 4.2 ସେମି। ଏଇ ଗୋଲାର୍ଧର ଆୟତନ (ସେମି³) କେତେ?

Options:

- 1) 103.488
- 2) 155.232
- 3) 68.992
- 4) 175.232

Correct Answer: 2) 155.232

Candidate Answer: 1) 103.488

QID : 707 - If $a + b = 5$ and $ab = 6$, then what is the value of $a^3 + b^3$?

ଯଦି $a + b = 5$ ଏବଂ $ab = 6$ ହୁଏ ତେବେ $a^3 + b^3$ ର ମାନ କେତେ?

Options:

- 1) 89
- 2) 17
- 3) 35
- 4) 215

Correct Answer: 3) 35

Candidate Answer: 1) 89

QID : 708 -

If $x^6 + \frac{1}{x^6} = 34$, then what is the value of $x^3 + \frac{1}{x^3}$?

ଯଦି $x^6 + \frac{1}{x^6} = 34$ ହୁଏ, ତେବେ $x^3 + \frac{1}{x^3}$ ର ମାନ କେତେ?

Options:

- 1) $\sqrt{34}$
- 2) 7
- 3) $\sqrt{27}$
- 4) 6

Correct Answer: 4) 6

Candidate Answer: 3) $\sqrt{27}$

QID : 709 - If $x^4 - 8x^3 + 7x^2 + 18x + 72$ is divided by $(x - 4)$, then what will be the quotient?

ଯଦି $x^4 - 8x^3 + 7x^2 + 18x + 72$ କୁ $(x - 4)$ ଦ୍ୱାରା ଭାଗ କରା ହୁଏ ତେବେ ଭାଗଫଳଟି କଣ ହେବ?

Options:

- 1) $x^3 + 4x^2 - 9x - 18$
- 2) $x^3 - 4x^2 - 9x + 18$
- 3) $x^3 - 4x^2 + 9x - 18$
- 4) $x^3 - 4x^2 - 9x - 18$

Correct Answer: 4) $x^3 - 4x^2 - 9x - 18$

Candidate Answer: 3) $x^3 - 4x^2 + 9x - 18$

QID : 710 - If $a \times b = a + b + ab$, then what is the value of 7×3 ?

ଯଦି $a \times b = a + b + ab$ ହୁଏ ତେବେ 7×3 ର ମାନ କେତେ?

Options:

- 1) 21
- 2) 31
- 3) 18
- 4) 27

Correct Answer: 2) 31

Candidate Answer: 4) 27

QID : 711 -

If $\frac{4a}{a^2 + 8a + 16} = \frac{1}{4}$, then what is the value of $a - \frac{1}{a}$?

ଯଦି $\frac{4a}{a^2 + 8a + 16} = \frac{1}{4}$ ହୁଏ, ତେବେ $a - \frac{1}{a}$ ର ମାନ କେତେ?

Options:

1)

$$3\frac{3}{4}$$

2)

$$4\frac{1}{4}$$

3) 12

4) 16

Correct Answer: 1)

$$3\frac{3}{4}$$

Candidate Answer: 3) 12

QID : 712 - In a group of 25 persons, when a person having weight 60 kg is replaced by a new person, then the average weight of the group is increased by 1 kg. What is the weight (in kg) of new person?

25 ଜଣର ଏକ ଦଳରେ, ଯେବେ 60 କେଜି ଓଜନର କୌଣସି ନୂଆ ବ୍ୟକ୍ତିର ଦ୍ୱାରା ପ୍ରତିସ୍ଥାପିତ ହୁଏ, ତେବେ ଦଳର ହାରାହାରି ଓଜନ 1 କେଜି ବୃଦ୍ଧି କରା ହୁଏ। ନୂଆ ବ୍ୟକ୍ତିର ଓଜନ (କେଜି ରେ) କେତେ?

Options:

1) 95

2) 61

3) 86

4) 85

Correct Answer: 4) 85

Candidate Answer: 3) 86

QID : 713 - A can do a work in 5 days and B can do the same work in 10 days. How many days will both take to complete the same work together?

A 5 ଦିନର ମଧ୍ୟରେ ଏକଟି କାମ କରିବା ପାଇଁ ଏବଂ B 10 ଦିନର ମଧ୍ୟରେ ଏକକାମ କରିବା ପାଇଁ ଯଦି ଦୁଇଜଣ ଏକ ସାଥେ ଏକ କାମ ଶେଷ କରିବା କେତେ ଦିନ ସମୟ ନେବେ?

Options:

- 1) 3
- 2) $8/3$
- 3) $10/3$
- 4) 2

Correct Answer: 3) $10/3$

Candidate Answer: 1) 3

QID : 714 - What is 20% of 20% of 200?

200 ର 20% ର 20% କେତେ ?

Options:

- 1) 8
- 2) 15
- 3) 10
- 4) 12



Correct Answer: 1) 8

Candidate Answer: 1) 8

QID : 715 - 18% of which number is equal to 12% of 75?

କେଉଁ ସଂଖ୍ୟାର 18%, 75 ର 12% ସହିତ ସମାନ?

Options:

- 1) 50
- 2) 100
- 3) 20
- 4) 320

Correct Answer: 1) 50

Candidate Answer: 4) 320

QID : 716 - If the sides of a right angled triangle are x , $(x + 1)$ and $(x - 1)$, then what is the length (in cm) of its hypotenuse?

ଯଦି ଏକ ସମକୋଣୀ ତ୍ରିଭୁଜର ପାର୍ଶ୍ଵ ଗୁଡ଼ିକ x , $(x + 1)$ ଏବଂ $(x - 1)$ ହୁଏ, ତେବେ ଅନୁମାନର ବୈଜ୍ଞ (ସେମି) କେତେ?

Options:

- 1) 5
- 2) 10
- 3) 7
- 4) 6

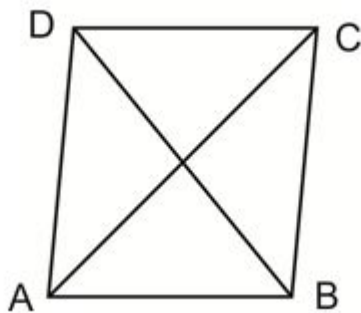
Correct Answer: 1) 5

Candidate Answer: 4) 6

QID : 717 -

In the given figure, ABCD is a rhombus. $AB = 6$ cm and $\angle ABC = 120^\circ$. What is the length (in cm) of diagonal BD?

ପ୍ରଦତ୍ତ ଚିତ୍ରଟିରେ, ABCD ହେଲା ଏକ ଗମ୍ଭୁଜ। $AB = 6$ ସେମି ଏବଂ $\angle ABC = 120^\circ$ । ଡିଆଗନାଲ BD ର ଦୈର୍ଘ୍ୟ (ସେମି) କେତେ?



Options:

- 1) 4
- 2) 6
- 3) 8
- 4) 12

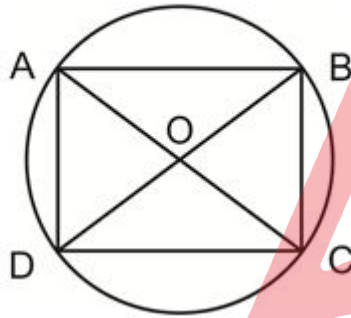
Correct Answer: 2) 6

Candidate Answer: 3) 8

QID : 718 -

In the given figure, ABCD is a cyclic quadrilateral with centre O. If $\angle COD = 120^\circ$ and $\angle BAC = 30^\circ$, then what is the value (in degrees) of $\angle BAD$?

ପ୍ରଦତ୍ତ ଚିତ୍ରଟିରେ, ABCD ହେଲା ଏକ ଚତୁର୍ଭୁଜ ଯାହା କେନ୍ଦ୍ରର ଚକ୍ରାକାର O। $\angle COD = 120^\circ$ ଏବଂ $\angle BAC = 30^\circ$, $\angle BAD$ ର ମାନ (ଡିଗ୍ରୀରେ) କେତେ?



Options:

- 1) 60
- 2) 90
- 3) 120
- 4) 30

Correct Answer: 2) 90

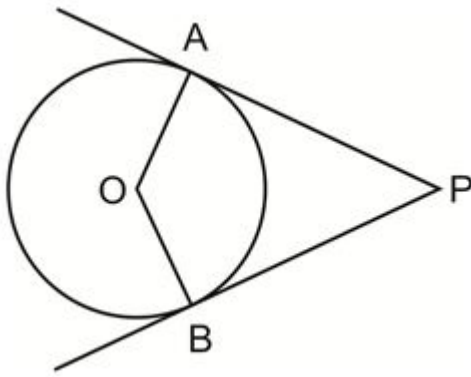
Candidate Answer: 1) 60

Adda247

QID : 719 -

In the given figure, O is the centre of the circle. If $\angle AOB = 110^\circ$, then what is the value of $\angle APB$?

ପ୍ରଦତ୍ତ ଚିତ୍ରରେ O ବୃତ୍ତର କେନ୍ଦ୍ର। ଯଦି $\angle AOB = 110^\circ$ ହୁଏ, ତେବେ $\angle APB$ ର ମାନ କେତେ?



Options:

- 1) 30
- 2) 40
- 3) 65
- 4) 70

Correct Answer: 4) 70

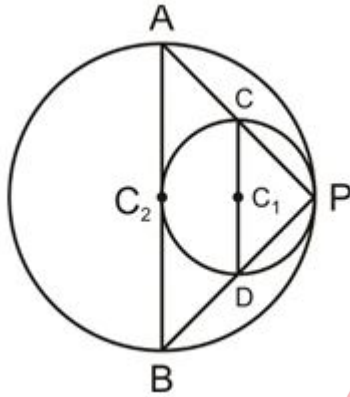
Candidate Answer: 4) 70



QID : 720 -

In the given figure, C_1 and C_2 are the centres of the circles. If $\angle BDC = 120^\circ$, then what is the value (in degrees) of $\angle ABP$?

ପ୍ରଦତ୍ତ ଚିତ୍ରରେ C_1 ଏବଂ C_2 ହେଲା ଦୁଇଗୁଡ଼ିର କେନ୍ଦ୍ର। ଯଦି $\angle BDC = 120^\circ$, ତେବେ $\angle ABP$ ର ମାନ (ଡିଗ୍ରୀରେ) କେତେ?



Options:

- 1) 40
- 2) 60
- 3) 120
- 4) 90

Correct Answer: 2) 60

Candidate Answer: 2) 60

QID : 721 - How technique of 'Classroom questioning' in teaching science can be used more effectively?

ବିଜ୍ଞାନର ପାଠଦାନର କ୍ଷେତ୍ରରେ 'ଶ୍ରେଣୀକକ୍ଷ ପ୍ରଶ୍ନବିଚ୍ଚ' କରିବାର କୌଶଳ କିପରି ଆହୁରି କାର୍ଯ୍ୟକରତାରେ ବ୍ୟବହାର କରା ଯାଇପାରେ?

Options:

1) Ensuring active participation of students

ଶିକ୍ଷାର୍ଥୀର ସକ୍ରିୟ ଅଂଶଗ୍ରହଣ ନିଶ୍ଚିତ କରନ୍ତୁ

2) Developing rote learning

ମୁଖସ୍ମ କରି ଶିଖିବାର ବିକାଶ ହୋଉଛି

3) Developing discipline in the class

କ୍ଲାସ୍ ଶୁଦ୍ଧିକା ବିକାଶ କରା

4) No option is correct

କୌଣସି ବିକଳ୍ପ ସଠିକ ନୁହେ

Correct Answer: 1) Ensuring active participation of students

ଶିକ୍ଷାର୍ଥୀର ସକ୍ରିୟ ଅଂଶଗ୍ରହଣ ନିଶ୍ଚିତ କରନ୍ତୁ

Candidate Answer: 1) Ensuring active participation of students

ଶିକ୍ଷାର୍ଥୀର ସକ୍ରିୟ ଅଂଶଗ୍ରହଣ ନିଶ୍ଚିତ କରନ୍ତୁ

QID : 722 - How practical work in science helps students in the learning process of science?

ବିଜ୍ଞାନର ବ୍ୟବହାରିକ କାମ କରୁଥିବାବେଳେ ଶିକ୍ଷାର୍ଥୀଙ୍କର ବିଜ୍ଞାନର ଶିଖିବାର ପ୍ରକ୍ରିୟାରେ ସହାୟତା କରେ?

Options:

1) Improve the marks obtained by the students

ଶିକ୍ଷାର୍ଥୀର ପ୍ରାପ୍ତ ନମ୍ବରଗୁଡ଼ି ଉନ୍ନତ କରନ୍ତୁ

2) Help the students to develop the habit of maintaining written records

ଶିକ୍ଷାର୍ଥୀର ଲିଖିତ ରେକର୍ଡ ବଜାୟ ରଖିବାର ଅଭ୍ୟାସ ଗଢ଼ିବାକୁ ସହାୟତା କରନ୍ତୁ

3) Keep proper check on punctuality and regularity of the students

ଛାତ୍ରଙ୍କର ନିୟମାବଳୀର ଧାରଣା ଏବଂ ନିୟମିତତା ସମ୍ପର୍କିତ ଯତ୍ନ ସତର୍କତା କରନ୍ତୁ

4) Help the students to verify the theoretical concepts

ତାତ୍ତ୍ୱିକ ଧାରଣାଟି ଯାଚାଇ କରନ୍ତେ ଶିକ୍ଷାର୍ଥୀର ସହାୟତା କରନ୍ତୁ

Correct Answer: 4) Help the students to verify the theoretical concepts

ତାତ୍ତ୍ୱିକ ଧାରଣାଟି ଯାଚାଇ କରନ୍ତେ ଶିକ୍ଷାର୍ଥୀର ସହାୟତା କରନ୍ତୁ

Candidate Answer: 4) Help the students to verify the theoretical concepts

ତାତ୍ତ୍ୱିକ ଧାରଣାଟି ଯାଚାଇ କରନ୍ତେ ଶିକ୍ଷାର୍ଥୀର ସହାୟତା କରନ୍ତୁ

QID : 723 - Project method in teaching of science is suited mostly to _____.

ବିଜ୍ଞାନର ପାଠଦାନର ପ୍ରକଳ୍ପର ପଦ୍ଧତିଟି ବେଶିରଭାଗ _____ ର ପାଇଁ ଉପଯୁକ୍ତ।

Options:

1) promote understanding of basic concepts in science

ବିଜ୍ଞାନର ପ୍ରାଥମିକ ଧାରଣାଗୁଡ଼ିକ କୁଝିବାକୁ ପ୍ରଚାର କରନ୍ତୁ

2) enhance numerical abilities of the students

ଶିକ୍ଷାର୍ଥୀମାନଙ୍କର ସଂଖ୍ୟାଗତ ଦକ୍ଷତା ବୃଦ୍ଧି

3) strengthen reasoning skill of the students

ଶିକ୍ଷାର୍ଥୀମାନଙ୍କର ଯୁକ୍ତି ଦକ୍ଷତା ଦୃଢ଼ତା

4) No option is correct

କୌଣସି ବିକଳ୍ପ ସଠିକ ନୁହେ

Correct Answer: 1) promote understanding of basic concepts in science

ବିଜ୍ଞାନର ପ୍ରାଥମିକ ଧାରଣାଗୁଡ଼ିକ କୁଝିବାକୁ ପ୍ରଚାର କରନ୍ତୁ

Candidate Answer: 3) strengthen reasoning skill of the students

ଶିକ୍ଷାର୍ଥୀମାନଙ୍କର ଯୁକ୍ତି ଦକ୍ଷତା ଦୃଢ଼ତା

QID : 724 - A teacher training intern wants to make a lesson plan on the theme 'Shelter'. What kind of teaching method will be helpful for the intern?

ଜଣେ ଶିକ୍ଷକ ପ୍ରଶିକ୍ଷଣ ଇନ୍‌ଟରନ୍ 'ଆଶ୍ରୟ' ଥିମ ଉପରେ ଏକ ଲେକ୍ଚର ପାଠ ପଢ଼ିବାକୁ ଚାହେ । କିପରି ଶିକ୍ଷଣ ପଦ୍ଧତି ଇନ୍‌ଟରନ୍ ପାଇଁ ସହାୟକ ହେବ?

Options:

1) Making innovative teaching aids on the topic 'Shelter'

'ଆଶ୍ରୟ' ଶୀର୍ଷକ ବିଷୟର ଅଭିନବ ଶିକ୍ଷାମୂଳକ ସହାୟକା ପ୍ରଦାନ

2) With the help of a guide, making questions and answers for the students which help them for their exams

ଗାଇଡର ସାହାଯ୍ୟରେ, ଶିକ୍ଷାର୍ଥୀଙ୍କ ପ୍ରଶ୍ନ ଓ ଉତ୍ତର ତିଆରି କରା ଯା ତାହା ପରୀକ୍ଷାର ଜନ୍ମ ଦେଇ ସହାୟକା କରେ

3) Writing only important points

ଶୁଧୁମାତ୍ର ଗୁରୁତ୍ୱପୂର୍ଣ୍ଣ ପଏଣ୍ଟ ଲେଖନ୍ତୁ

4) All options are correct

ସମସ୍ତ ବିକଳ୍ପ ସଠିକ

Correct Answer: 1) Making innovative teaching aids on the topic 'Shelter'

'ଆଶ୍ରୟ' ଶୀର୍ଷକ ବିଷୟର ଅଭିନବ ଶିକ୍ଷାମୂଳକ ସହାୟକା ପ୍ରଦାନ

Candidate Answer: 4) All options are correct

ସମସ୍ତ ବିକଳ୍ପ ସଠିକ

QID : 725 - What is the best method for a science teacher to teach the concept of 'Physical and Chemical change' to class VI students?

କଣ ବିଜ୍ଞାନର ଶିକ୍ଷକ ପାଇଁ VI ଶ୍ରେଣୀର ଶିକ୍ଷାର୍ଥୀଙ୍କୁ 'ଶାରୀରିକ ଓ ରାସାୟନିକ ପରିବର୍ତ୍ତନ' ଧାରଣା ଶିଖାଇବାର ସର୍ବୋତ୍ତମ ପଦ୍ଧତି କଣ?

Options:

- 1) By demonstrating different experiments so that students can observe and learn
ବିଭିନ୍ନ ପରୀକ୍ଷା-ନିରୀକ୍ଷା କରେ ଯାତେ ଶିକ୍ଷାର୍ଥୀରା ପର୍ଯ୍ୟବେକ୍ଷଣ କରନ୍ତେ ଓ ଶିଖନ୍ତେ ପାରେ
- 2) By writing some examples of physical and chemical change
ଶାରୀରିକ ଓ ରାସାୟନିକ ପରିବର୍ତ୍ତନର କେତାଡ଼ି ଉଦାହରଣ ଲେଖନ୍ତୁ
- 3) By asking students to memorise the definitions of physical and chemical change
ଶିକ୍ଷାର୍ଥୀର ଶାରୀରିକ ଏବଂ ରାସାୟନିକ ପରିବର୍ତ୍ତନର ସଂଜ୍ଞା ମୁଖ୍ୟତଃ କରନ୍ତେ କୁହାର ମାଧ୍ୟମରେ
- 4) No option is correct
କୌଣସି ବିକଳ୍ପ ସଠିକ ନୁହେ

Correct Answer: 1) By demonstrating different experiments so that students can observe and learn

ବିଭିନ୍ନ ପରୀକ୍ଷା-ନିରୀକ୍ଷା କରେ ଯାତେ ଶିକ୍ଷାର୍ଥୀରା ପର୍ଯ୍ୟବେକ୍ଷଣ କରନ୍ତେ ଓ ଶିଖନ୍ତେ ପାରେ

Candidate Answer: 2) By writing some examples of physical and chemical change

ଶାରୀରିକ ଓ ରାସାୟନିକ ପରିବର୍ତ୍ତନର କେତାଡ଼ି ଉଦାହରଣ ଲେଖନ୍ତୁ

QID : 726 - Which of the following is the key feature of Formative Assessment in science?

ନିମ୍ନର କଣଟି ବିଜ୍ଞାନରେ ଫର୍ମେଟିଭ ଆସେସମେନ୍ଟର ମୂଳ ବୈଶିଷ୍ଟ୍ୟ?

Options:

- 1) It is conducted at the end of the year
ଏଡ଼ି ବର୍ଷ ଶେଷରେ ପରିଚାଳିତ ହୁଏ
- 2) It is diagnostic in nature
ଏହା ହେଉଛି ପ୍ରକୃତିର ଡାୟୋଗନସ୍ଟିକ
- 3) It encourages rote learning
ଏହା ମୁଖ୍ୟତଃ କରନ୍ତେ ଶିଖିବାର ପାଇଁ ଉତ୍ସାହ ଦିଅ
- 4) No option is correct
କୌଣସି ବିକଳ୍ପ ସଠିକ ନୁହେ

Correct Answer: 2) It is diagnostic in nature

ଏହା ହେଉଛି ପ୍ରକୃତିର ଡାୟୋଗନସ୍ଟିକ

Candidate Answer: 3) It encourages rote learning

ଏହା ମୁଖ୍ୟତଃ କରନ୍ତେ ଶିଖିବାର ପାଇଁ ଉତ୍ସାହ ଦିଅ

QID : 727 - Summative Assessment in science should mainly focus on _____.

ବିଜ୍ଞାନର ସଂନିଶ୍ରଣ ମୂଲ୍ୟାୟନର ପ୍ରଧାନତଃ _____ ର ଉପର ଦୃଷ୍ଟି ନିବନ୍ଧ କରା ଉଚିତ।

Options:

- 1) testing of mainly the practical skills
ପ୍ରଧାନତଃ ବ୍ୟବହାରିକ ଦକ୍ଷତାର ପରୀକ୍ଷା କରନ୍ତୁ
- 2) testing important theoretical concepts
ଗୁରୁତ୍ୱପୂର୍ଣ୍ଣ ତାତ୍ତ୍ୱିକ ଧାରଣା ପରୀକ୍ଷା
- 3) assessing observational skills
ପର୍ଯ୍ୟବେକ୍ଷଣ ଦକ୍ଷତା ମୂଲ୍ୟାୟନ
- 4) diagnosing the areas of difficulties of students
ଶିକ୍ଷାର୍ଥୀର ଅସୁବିଧାର କ୍ଷେତ୍ରଗୁଡ଼ି ନିର୍ଣ୍ଣୟ କରିବା

Correct Answer: 4) diagnosing the areas of difficulties of students
ଶିକ୍ଷାର୍ଥୀର ଅସୁବିଧାର କ୍ଷେତ୍ରଗୁଡ଼ି ନିର୍ଣ୍ଣୟ କରିବା


Candidate Answer: 1) testing of mainly the practical skills
ପ୍ରଧାନତଃ ବ୍ୟବହାରିକ ଦକ୍ଷତାର ପରୀକ୍ଷା କରନ୍ତୁ

QID : 728 - While discussing a concept of science, a science teacher firstly explained general rule and then the examples were illustrated. What method of teaching is used by science teacher?

ବିଜ୍ଞାନର ଏକଟି ଧାରଣା ନେଇ ଆଲୋଚନାର ସମୟ, ଜଣେ ବିଜ୍ଞାନ ଶିକ୍ଷକ ପ୍ରଥମେ ସାଧାରଣ ନିୟମଟି ବୁଝାଇ କିମ୍ପଲେ ଏବଂ ତାପରେ ଉଦାହରଣଗୁଡ଼ି ଚିତ୍ରିତ କରା ହେଇଥିଲା। ବିଜ୍ଞାନର ଶିକ୍ଷକ କାଉ ପଦ୍ଧତିରେ ଶିକ୍ଷାଦାନ କରନ୍ତି?

Options:

- 1) Deductive method
ଡିଡୁକ୍ଟିଭ ପଦ୍ଧତି
- 2) Inductive method
ଆଧୁନିକ ପଦ୍ଧତି
- 3) Cognitive method
ଜ୍ଞାନୀୟ ପଦ୍ଧତି
- 4) Skill lesson
ଦକ୍ଷତା ପାଠ



Correct Answer: 1) Deductive method
ଡିଡୁକ୍ଟିଭ ପଦ୍ଧତି

Candidate Answer: 1) Deductive method
ଡିଡୁକ୍ଟିଭ ପଦ୍ଧତି

QID : 729 - Lesson planning in science should be guided primarily by the consideration of _____.

ବିଜ୍ଞାନର ପାଠ ପରିକଳ୍ପନା ପ୍ରାଥମିକତାରେ _____ ବିବେଚନା କରି ଗଠିତ କରା ଉଚିତ।

Options:

1) meeting the needs of the child performing average in the class

କ୍ଲାସ ହାରାହାରି ସମ୍ପାଦନ କରିବା ସନ୍ତାନର ଚାହିଦା ପୂରଣ କର

2) satisfying parents

ସନ୍ତୁଷ୍ଟ ପିତାମାତାର

3) the completion of whole syllabus

ପୁରା ସିଲେବସର ସମାପ୍ତି

4) burdening the children with work

କାଳେର ସାଥେ ଶିଶୁଦେର ବୋଧା

Correct Answer: 1) meeting the needs of the child performing average in the class

କ୍ଲାସ ହାରାହାରି ସମ୍ପାଦନ କରିବା ସନ୍ତାନର ଚାହିଦା ପୂରଣ କର

Candidate Answer: 1) meeting the needs of the child performing average in the class

କ୍ଲାସ ହାରାହାରି ସମ୍ପାଦନ କରିବା ସନ୍ତାନର ଚାହିଦା ପୂରଣ କର

QID : 730 - How 'newspaper reading' in a science class will be helpful in teaching learning process of science?

କିପରି ଏକ ବିଜ୍ଞାନ ଶ୍ରେଣୀରେ 'ସଂବାଦପତ୍ର ପଢ଼ା' ବିଜ୍ଞାନର ପାଠଦାନ ପଦ୍ଧତି ଶିଖାଇବା କ୍ଷେତ୍ରରେ ସହାୟକ ହବ?

Options:

1) It enhances the child's perception and make him aware about the outside world

ଏହା ପିଲା ର ଉପଲକ୍ଷି ବାସ୍ତବ୍ୟ ଏବଂ ବାହାରର ବିଶ୍ୱ ସମ୍ପର୍କରେ ତାହାକୁ ସଚେତନ କରନ୍ତୁ

2) It has no significance in science classroom

ବିଜ୍ଞାନର ଶ୍ରେଣୀକକ୍ଷେ ଏର କୋନ ତାପୂର୍ଯ ନେଇ

3) It doesn't add any experience in child's learning

ଏଟି ସନ୍ତାନର ଶିଖିବାର କୌଣସି ଅଭିଜ୍ଞତା ଯୁକ୍ତ କରେ ନାହିଁ

4) No option is correct

କୌଣସି ବିକଳ୍ପ ସଠିକ ନୁହେ

Correct Answer: 1) It enhances the child's perception and make him aware about the outside world

ଏହା ପିଲା ର ଉପଲକ୍ଷି ବାସ୍ତବ୍ୟ ଏବଂ ବାହାରର ବିଶ୍ୱ ସମ୍ପର୍କରେ ତାହାକୁ ସଚେତନ କରନ୍ତୁ

Candidate Answer: 4) No option is correct

କୌଣସି ବିକଳ୍ପ ସଠିକ ନୁହେ

QID : 731 - Which of the following statements regarding adaption of animals to climatic conditions is correct?

I. Many animals live on trees in tropical rainforest

II. Some birds migrate to warmer regions when winter arrives

III Polar bears have white furs to protect themselves from predators

ଜଳବାୟୁ ସହ ପ୍ରାଣୀମାନଙ୍କ ଗ୍ରହଣ କରିବାର ବିଷୟରେ ନିମ୍ନ ରୁ କେଉଁ ବକ୍ତବ୍ୟ ସଠିକ?

I. ଗ୍ରୀଷ୍ମମଣ୍ଡଳୀୟ ରେନଫରେଷ୍ଟ ରେ ଗଛଗୁଡ଼ିକ ରେ ଅନେକ ପ୍ରାଣୀ ବାସ କରନ୍ତି

II. କିଛି ପକ୍ଷୀ ଶୀତକାଳ ଆସାର ସମୟ ଉଷ୍ଣ ଅଞ୍ଚଳକୁ ସ୍ଥାନାନ୍ତରିତ ହୁଅନ୍ତି

III. ପୋଲାର ବିୟରଗୁଡ଼ିକ ଶିକାରୀର ହାତ ଠାରୁ ନିଜେକୁ ରକ୍ଷା କରିବ ପାଇଁ ସବୁ ଲୋମ ଥାଏ

Options:

- 1) Both II and III
II ଏବଂ III ଉଭୟ
- 2) I, II and III
I, II ଏବଂ III
- 3) Both I and III
I ଏବଂ III ଉଭୟ
- 4) Only II
କେବଳ II

Correct Answer: 2) I, II and III
I, II ଏବଂ III

Candidate Answer: 2) I, II and III
I, II ଏବଂ III

QID : 732 - Which of the following element has valency 4?

ନିମ୍ନଲିଖିତ କେଉଁ ଉପାଦାନଗୁଡ଼ିକର ମଧ୍ୟରେ ଭ୍ୟାଲେନ୍ସୀ 4 ଅଟେ ?

Options:

- 1) Aluminium
ଆଲୁମିନିୟମ
- 2) Boron
ବୋରନ
- 3) Silicon
ସିଲିକନ
- 4) Phosphorous
ଫସଫରସ



Correct Answer: 3) Silicon
ସିଲିକନ

Candidate Answer: 3) Silicon
ସିଲିକନ

QID : 733 - Sound waves are _____.

ଶବ୍ଦ ତରଙ୍ଗ _____ ହୁଏ।

Options:

- 1) mechanical and longitudinal waves
ଯାନ୍ତ୍ରିକ ଏବଂ ଅନୁଦୈର୍ଘ୍ୟ ତରଙ୍ଗ
- 2) mechanical and transverse waves
ଯାନ୍ତ୍ରିକ ଏବଂ ଗ୍ରାହଭାର୍ଯ୍ୟ ତରଙ୍ଗ
- 3) electromagnetic and transverse waves
ବୈଦ୍ୟୁତିକ ଚୈତ୍ଯକ ଏବଂ ଗ୍ରାହଭାର୍ଯ୍ୟ ତରଙ୍ଗ
- 4) electromagnetic and longitudinal waves
ବୈଦ୍ୟୁତିକ ଚୈତ୍ଯକୀୟ ଏବଂ ଅନୁଦୈର୍ଘ୍ୟ ତରଙ୍ଗ

Correct Answer: 1) mechanical and longitudinal waves
ଯାନ୍ତ୍ରିକ ଏବଂ ଅନୁଦୈର୍ଘ୍ୟ ତରଙ୍ଗ

Candidate Answer: 2) mechanical and transverse waves
ଯାନ୍ତ୍ରିକ ଏବଂ ଗ୍ରାହଭାର୍ଯ୍ୟ ତରଙ୍ଗ

QID : 734 - Two bones are connected to each other by which connective tissue?

ଦୁଇଟି ହାଡ଼ ପରସ୍ପର ସହିତ କେଉଁ ସଂଯୋଜକ ତିସସୁ ଦ୍ଵାରା ସଂଯୁକ୍ତ ହୁଏ ?

Options:

- 1) Ligament
ସନ୍ଧିବନ୍ଧନୀ
- 2) Tendon
କଣ୍ଠରା(ଟେଣ୍ଡୋନ)
- 3) Areolar
ଝେୟଲର
- 4) Cartilage
ତରୁଣାସ୍ଥି

Correct Answer: 1) Ligament
ସନ୍ଧିବନ୍ଧନୀ

Candidate Answer: 4) Cartilage
ତରୁଣାସ୍ଥି

QID : 735 - The gravitational force between two objects is G . If the distance between the two objects is doubled, then the gravitational force becomes _____.

ଦୁଇଟି ବସ୍ତୁର ମଧ୍ଯାକର୍ଷଣ ଶକ୍ତି ହେଉଛି G । ଯଦି ଦୁଇଟି ବସ୍ତୁର ମଧ୍ଯକାର ଦୂରତ୍ଵ ଦ୍ଵିଗୁଣ ହୁଏ ତେବେ ମହାକର୍ଷଣ ଶକ୍ତି _____ ହୁଏ।

Options:

- 1) $4G$
- 2) $2G$
- 3) $G/16$
- 4) $G/4$

Correct Answer: 4) $G/4$

Candidate Answer: 2) 2G

QID : 736 - According to modern Periodic law, "properties of elements are periodic function of their _____".

ଆଧୁନିକ ପର୍ଯ୍ୟାୟକ୍ରମିକ ଆଇନ ଅନୁସାରେ, "ଉପାଦାନଗୁଡ଼ିକର ବୈଶିଷ୍ଟ୍ୟଗୁଡ଼ିକ ହେଉଛି ତାହାର _____ ର ପର୍ଯ୍ୟାୟକ୍ରମିକ କ୍ରିୟା ହୁଏ"।

Options:

- 1) atomic mass
ଆଣବିକ ଭାର
- 2) atomic numbers
ପରମାଣୁ ସଂଖ୍ୟା
- 3) mass of electron
ଇଲେକ୍ଟ୍ରନ୍ ଭାର
- 4) mass of proton
ପ୍ରୋଟନର ଭାର

Correct Answer: 2) atomic numbers
ପରମାଣୁ ସଂଖ୍ୟା

Candidate Answer: 3) mass of electron
ଇଲେକ୍ଟ୍ରନ୍ ଭାର

QID : 737 - Which of the following lens is used by a person suffering from Hypermetropia?

ହାଇପାରମେଟ୍ରୋପିୟା ଆକ୍ରାନ୍ତ ବ୍ୟକ୍ତି ନିତର କଣି ଲେନ୍ସ ବ୍ୟବହାର କରନ୍ତି?

Options:

- 1) Bifocal Lens
ବାଇଫୋକାଲ ଲେନ୍ସ
- 2) Convex Lens
ଉତ୍ତଳ ଲେନ୍ସ
- 3) Concave Lens
କନକାଭ ଲେନ୍ସ
- 4) No option is correct
କୌଣସି ବିକଳ୍ପ ସଠିକ ନୁହେ

Correct Answer: 2) Convex Lens
ଉତ୍ତଳ ଲେନ୍ସ

Candidate Answer: 2) Convex Lens
ଉତ୍ତଳ ଲେନ୍ସ

QID : 738 - Which of the following contraceptives can be used to prevent sexually transmitted diseases (STDs)?

ଯୌନ ସଂକ୍ରମଣ (ଏସଟିଡି) ପ୍ରତିରୋଧକ ପାଇଁ ନିମ୍ନ କଣଟି ଗର୍ଭନିରୋଧକ ବ୍ୟବହାର କରା ଯାଇପାରେ?

Options:

1) Copper –T

କପର –T

2) Oral Contraceptive Pill

ମୌଖିକ ଗର୍ଭନିରୋଧକ ବଡ଼ି

3) Loop

ଲୁପ୍

4) Condom

କନଡମ

Correct Answer: 4) Condom

କନଡମ

Candidate Answer: 4) Condom

କନଡମ

QID : 739 - Due to the decreased level of which hormone osteoporosis mainly occurs in females?

ହରମୋନ ଅଭିଓପରୋସିସ ହ୍ରାସ ସ୍ତରର କାରଣେ ପ୍ରଧାନତ ମହିଳାଙ୍କର ମଧ୍ଯେ ଦେଖା ଯାଏ?

Options:

1) Testosterone

ଟେଷଟୋସଟେର

2) Estrogen

ଇଷ୍ଟ୍ରୋଜେନ

3) Progesterone

ପ୍ରୋଜେଷ୍ଟେରନ

4) Adrenaline

ଏଡ୍ରେଲିନ

Correct Answer: 2) Estrogen

ଇଷ୍ଟ୍ରୋଜେନ

Candidate Answer: 3) Progesterone

ପ୍ରୋଜେଷ୍ଟେରନ

QID : 740 - A fan produces a feeling of coolness and comfort during hot weather because

_____.

ଏକ ଫ୍ୟାନ ଗରମ ପାଗ ସମୟ ଶୀତଳତା ଏବଂ ଆରମ ଅନୁଭୂତି କରାଇବାର କାରଣ _____ ।

Options:

1) thermal conductivity of air increases

ବାୟୁ ତାପ ପରିବାହିତା ବୃଦ୍ଧି ପାଏ

2) fan supplies cool air

ଫ୍ୟାନ ସରବରାହ ଶୀତଳ ପବନ

3) perspiration evaporates slowly

ଝାଳ ଧୀରେ ଧୀରେ ବାଷ୍ପୀଭବନ ହୁଏ

4) perspiration evaporates quickly

ଝାଳ ଦ୍ରୁତ ଭାବେ ବାଷ୍ପୀଭବନ ହୁଏ

Correct Answer: 4) perspiration evaporates quickly

ଝାଳ ଦ୍ରୁତ ଭାବେ ବାଷ୍ପୀଭବନ ହୁଏ

Candidate Answer: 4) perspiration evaporates quickly

ଝାଳ ଦ୍ରୁତ ଭାବେ ବାଷ୍ପୀଭବନ ହୁଏ

QID : 741 - Medicine used for indigestion is _____.

ବଦହଜମିର ପାଇଁ ବ୍ୟବହୃତ ଔଷଧ _____ ।

Options:

1) Antibiotic

ଜୀବାଣୁ-ପ୍ରତିରୋଧୀ(ଆଣ୍ଟିବାଇଓଟିକ୍)

2) Antacid

ଅମ୍ଳନାଶକ

3) Analgesic

ବେଦନାନାଶକ

4) Antiseptic

ବାଜବାରକ

Correct Answer: 2) Antacid

ଅମ୍ଳନାଶକ

Candidate Answer: 2) Antacid

ଅମ୍ଳନାଶକ

QID : 742 - Sodium chloride (NaCl) is a salt of _____.

ସୋଡ଼ିୟମ କ୍ଲୋରାଇଡ (NaCl) _____ ର ଏକ ଲବଣ ।



Options:

1) Strong acid and weak base

ଶକ୍ତିଶାଳୀ ଅମ୍ଳାସିତ ଏବଂ ଦୁର୍ବଳ ବେସ

2) Weak acid and weak base

ଦୁର୍ବଳ ଅମ୍ଳାସିତ ଏବଂ ଦୁର୍ବଳ ବେସ

3) Strong acid and strong base

ଶକ୍ତିଶାଳୀ ଅମ୍ଳାସିତ ଏବଂ ଶକ୍ତିଶାଳୀ ବେସ

4) Weak acid and strong base

ଦୁର୍ବଳ ଅମ୍ଳାସିତ ଏବଂ ଶକ୍ତିଶାଳୀ ବେସ

Correct Answer: 3) Strong acid and strong base

ଶକ୍ତିଶାଳୀ ଅମ୍ଳାସିତ ଏବଂ ଶକ୍ତିଶାଳୀ ବେସ

Candidate Answer: 4) Weak acid and strong base

ଦୁର୍ବଳ ଅମ୍ଳାସିତ ଏବଂ ଶକ୍ତିଶାଳୀ ବେସ

QID : 743 - When does menopause occur in females?

ମହିଳାମାନଙ୍କର ମଧ୍ୟରେ ମେନୋପଜ କେବେ ଘଟେ?

Options:

1) When puberty Starts

ବୟସ୍କି ଶୁରୁ ହୁଏ

2) When ovaries shrink

ଯେବେ ଡିମ୍ବାଶୟ ସଙ୍କୁଚିତ ହୁଏ

3) When menstruation starts in women

ମହିଳାରେ ମଧ୍ୟରେ ଯେବେ ମାସିକ ଶ୍ରାବ ଆରମ୍ଭ ହୁଏ

4) When egg cells are not released by ovaries

ଯେବେ ଡିମ୍ବର କୋଷ ଡିମ୍ବାଶୟ ଦ୍ଵାରା ନିର୍ଗତ ହୁଏ ନାହିଁ

Correct Answer: 4) When egg cells are not released by ovaries

ଯେବେ ଡିମ୍ବର କୋଷ ଡିମ୍ବାଶୟ ଦ୍ଵାରା ନିର୍ଗତ ହୁଏ ନାହିଁ

Candidate Answer: 3) When menstruation starts in women

ମହିଳାରେ ମଧ୍ୟରେ ଯେବେ ମାସିକ ଶ୍ରାବ ଆରମ୍ଭ ହୁଏ

QID : 744 - Which of the following is used in the manufacturing of Magnets?

ମ୍ୟାଗନେଟ ତିଆରି କରିବାରେ ନିମ୍ନ କଣଟି ବ୍ୟବହୃତ ହୁଏ?

Options:

- 1) Zinc
ଦଣ୍ଡା
- 2) Copper
ତମ୍ବା
- 3) Iron
ଲୁହା
- 4) Aluminium
ଆଲୁମିନିୟମ

Correct Answer: 3) Iron
ଲୁହା

Candidate Answer: 1) Zinc
ଦଣ୍ଡା

QID : 745 - Chemical name of White Vitriol is _____.

ହାଇଟ ଭିଟ୍ରିଓଲର ରାସାୟନିକ ନାମ _____ ।

Options:

- 1) Copper Sulphate Pentahydrate
କପର ସାଲଫେଟ ପେନ୍ଟାହାଇଡ୍ରେଟ
- 2) Zinc Sulphate Pentahydrate
ଜିଙ୍କ ସାଲଫେଟ ପେନ୍ଟାହାଇଡ୍ରେଟ
- 3) Zinc Sulphate Heptahydrate
ଜିଙ୍କ ସାଲଫେଟ ହେପ୍ଟାହାଇଡ୍ରେଟ
- 4) Copper Sulphate Trihydrate
କପର ସାଲଫେଟ ଟ୍ରାଇହାଇଡ୍ରେଟ

Correct Answer: 3) Zinc Sulphate Heptahydrate
ଜିଙ୍କ ସାଲଫେଟ ହେପ୍ଟାହାଇଡ୍ରେଟ

Candidate Answer: 4) Copper Sulphate Trihydrate
କପର ସାଲଫେଟ ଟ୍ରାଇହାଇଡ୍ରେଟ

QID : 746 - Which of the following is a diatomic element?

- I. Oxygen
- II. Sulphur
- III. Argon
- IV. Chlorine

ନିମ୍ନ କଣଟି ଦ୍ୱାତୀକ ଉପାଦାନ?

- I. ଅକ୍ସିଜେନ
- II. ସାଲଫାର
- III. ଆର୍ଗନ
- IV. କ୍ଲୋରିନ

Options:

- 1) I and IV
I ଏବଂ IV
- 2) Only III
କେବଳ III
- 3) I, II and III
I, II ଏବଂ III
- 4) I, II and IV
I, II ଏବଂ IV

Correct Answer: 1) I and IV
I ଏବଂ IV

Candidate Answer: 2) Only III
କେବଳ III

QID : 747 - Which organ of the human body releases Insulin hormone?

ମାନବ ଦେହର କଉ ଅଙ୍ଗ ଇନସୁଲିନ ହରମୋନ ନିଃସରଣ କରେ?

Options:

- 1) Liver
ଯକୃତ
- 2) Small Intestine
କ୍ଷୁଦ୍ରାନ୍ତ
- 3) Thyroid Gland
ଥାଇରଏଡ ଗ୍ରନ୍ଥି
- 4) Pancreas
ଅଗ୍ନିଶିର

Correct Answer: 4) Pancreas
ଅଗ୍ନିଶିର

Candidate Answer: 4) Pancreas
ଅଗ୍ନିଶିର

QID : 748 - Because of _____, tail of a comet points away from the Sun.

_____ ର କାରଣ, ଧୂମକେତୁଟିର ଲାଞ୍ଜ ସୂର୍ଯ୍ୟ ଠାରୁ ଦୂରରେ ଅବସ୍ଥିତ।

Options:

1) gravitational force of earth

ପୃଥିବୀର ମହାକର୍ଷଣ ଶକ୍ତି

2) Solar heating

ସୌର ତାପ

3) Sun's magnetic pressure

ସୂର୍ଯ୍ୟର ଚୈତ୍ତ୍ୱକୀୟ ତାପ

4) Sun's radiation pressure

ସୂର୍ଯ୍ୟର ବିକିରଣ ତାପ

Correct Answer: 4) Sun's radiation pressure

ସୂର୍ଯ୍ୟର ବିକିରଣ ତାପ

Candidate Answer: 1) gravitational force of earth

ପୃଥିବୀର ମହାକର୍ଷଣ ଶକ୍ତି

QID : 749 - A boat rises up as it enters sea from a river because _____.

ଏକଟି ନୌକା ନଦୀ ଠାରୁ ସମୁଦ୍ର ପ୍ରବେଶର ସାଥେ ସାଥେ ଉପରେ ଉଠେଇଁଲ କାରଣ _____ ।

Options:

1) sea water is softer than river water

ନଦୀର ପାଣିର ଠାରୁ ସମୁଦ୍ରର ପାଣି ନରମ

2) density of sea water is higher than river water

ନଦୀର ଜଳର ଚାହିଁ ସମୁଦ୍ରର ପାନିର ଘନତ୍ୱ ବେଶି

3) sea water is harder than river water

ନଦୀର ପାଣିର ଠାରୁ ସମୁଦ୍ରର ପାଣି ଶକ୍ତ

4) density of river water is higher than sea water

ନଦୀର ପାଣିର ଘନତ୍ୱ ସମୁଦ୍ରର ପାଣିର ଠାରୁ ବେଶି

Correct Answer: 2) density of sea water is higher than river water

ନଦୀର ଜଳର ଚାହିଁ ସମୁଦ୍ରର ପାନିର ଘନତ୍ୱ ବେଶି

Candidate Answer: 3) sea water is harder than river water

ନଦୀର ପାଣିର ଠାରୁ ସମୁଦ୍ରର ପାଣି ଶକ୍ତ

QID : 750 - In which organism, does double fertilisation occurs?

କେଉଁ ଜୀବର, ଡବଲ ସାର(ଫର୍ଟିଲାଇଜେସନ) ନିଷିକ୍ତ ହୁଏ?

Options:

1) Human Beings

ମଣିଷ

2) Reptiles

ସରୀସୃପ

3) Angiosperms

ଏନଜିଓସ୍ପର୍ମ

4) Gymnosperms

ଜିମନୋସ୍ପର୍ମ

Correct Answer: 3) Angiosperms

ଏନଜିଓସ୍ପର୍ମ

Candidate Answer: 3) Angiosperms

ଏନଜିଓସ୍ପର୍ମ

