

## 18th August RRB NTPC Reasoning Sunday Mega Quiz Questions

**Q1. In the following question, select the related word pair from the given alternatives.**

निम्नलिखित प्रश्न में, दिए गए विकल्पों में से सम्बंधित शब्द युग्म का चयन करें

**Book : Pages :: ? : ?**

पुस्तक: पन्ने :: ? : ?

- (a) Writer : Write/ लेखक: लिखना
- (b) Pen : Write/पेन : लिखना
- (c) Car : Tyre/ गाड़ी : पहिया
- (d) Tyre : Round/पहिया : गोल

**Q2. In the following question, select the related number from the given alternatives.**

निम्नलिखित प्रश्न में, दिए गए विकल्पों में से सम्बंधित संख्या का चयन करें

**553 : 551 :: 447 : ?**

- (a) 443
- (b) 445
- (c) 441
- (d) 451

**Q3. In the following question, select the related number from the given alternatives.**

निम्नलिखित प्रश्न में, दिए गए विकल्पों में से सम्बंधित संख्या का चयन करें

**15 : 22 :: 19 : ?**

- (a) 24
- (b) 20
- (c) 26
- (d) 22

**Q4. In the following question, select the related letter/letters from the given alternatives.**

निम्नलिखित प्रश्न में, दिए गए विकल्पों में से सम्बंधित वर्ण का चयन करें

**BCE : IJL :: CDF : ?**

- (a) KLN
- (b) JKM
- (c) JLN
- (d) KMN

**Q5. In the following question, select the related word pair from the given alternatives.**

निम्नलिखित प्रश्न में, दिए गए विकल्पों में से सम्बंधित शब्द युग्म का चयन करें

**Influenza : Virus :: Ringworm : ?**

इन्फ्लुएंजा: वायरस:: दाद:?

- (a) Bacteria/ बैक्टीरिया
- (b) Fungi/ कवक
- (c) Parasite/ परजीवी
- (d) Protozoa/ प्रोटोजोआ

**Q6. In the following question, select the odd word pair from the given alternatives.**

निम्नलिखित प्रश्न में, दिए गए विकल्पों में से विषम शब्द युग्म का चयन करें

- (a) Zinc – Metal/ जस्ता - धातु
- (b) Aluminum – Metal/ एल्युमिनियम - धातु
- (c) Crocodile – Water/ मगरमच्छ - पानी
- (d) Gold – Metal/ सोना- धातु

**Q7. In the following question, select the odd letter/letters from the given alternatives.**

निम्नलिखित प्रश्न में, दिए गए विकल्पों में से विषम वर्ण का चयन करें

- (a) BE
- (b) SU
- (c) AD
- (d) OR

**Q8. In the following question, select the odd word pair from the given alternatives.**

निम्नलिखित प्रश्न में, दिए गए विकल्पों में से विषम शब्द युग्म का चयन करें

- (a) Red – Stop/लाल- रुकें
- (b) Green – Go/हरा- जाना
- (c) Pink – Red/गुलाबी- लाल
- (d) Yellow – Wait/पीला- प्रतीक्षा करें

**Q9. In the following question, select the odd word from the given alternatives.**

निम्नलिखित प्रश्न में, दिए गए विकल्पों में से विषम शब्द का चयन करें

- (a) Definite / निश्चित
- (b) Specific / विशिष्ट
- (c) Doubtful / संदिग्ध
- (d) Distinct / अलग

**RRB NTPC 2019  
PRIME PACKAGE**

**100 + TOTAL TESTS**

- 40 Full Length Mocks
- 30 Section Wise Tests
- 10 Previous Years papers
- 20 +Topic Wise tests
- eBooks

**BILINGUAL**

**Q10. In the following question, select the odd one from the given alternatives.**

निम्नलिखित प्रश्न में, दिए गए विकल्पों में से विषम शब्द का चयन करें

- (a) BEHK
- (b) JMPS
- (c) PSVY
- (d) EHKM

**Q11. Select the related word/letters/number from the given alternatives.**

दिए गए विकल्पों में से सम्बन्धित शब्द/वर्ण/संख्या का चयन करें.

**RM : XG :: ER : ?**

- (a) PK
- (b) LK
- (c) KL
- (d) PL

**Q12. Select the related word/letters/number from the given alternatives.**

दिए गए विकल्पों में से सम्बन्धित शब्द/वर्ण/संख्या का चयन करें.

**ET : VG :: NO : ?**

- (a) IM
- (b) MI
- (c) ML
- (d) LM

**Q13. Select the related word/letters/number from the given alternatives.**

दिए गए विकल्पों में से सम्बन्धित शब्द/वर्ण/संख्या का चयन करें.

**97 : 63 :: 67 : ?**

- (a) 38
- (b) 56
- (c) 42
- (d) 45

**Direction (14-15) : For the following questions. Find out the odd word/letters/number pair from the given alternatives.**

निम्नलिखित प्रश्नों के लिए, दिए गए विकल्पों में से विषम शब्द/वर्ण/संख्या युग्म का चयन करें.

Q14.

- (a) 636
- (b) 749
- (c) 864
- (d) 989

TEST SERIES

STAGE-II



**RRB JE PRIME  
MECHANICAL**

**30+ TOTAL TESTS**

Validity : 2 Months

Q15 (a) Daman and Diu/दमन और दीव

(b) Puducherry/ पुदुच्चेरी

(c) Delhi/दिल्ली

(d) Chennai/चेन्नई

Q16. If 27th December 2009 was a Thursday, then what day of the week was it on 1st March 2010?

यदि 27 दिसम्बर 2009 को गुरुवार था, तो 1 मार्च 2010 को सप्ताह का कौन सा दिन था?

(a) Thursday /गुरुवार

(b) Friday /शुक्रवार

(c) Sunday /रविवार

(d) Monday/सोमवार

Q17. A man is facing towards the east. He turns 270 degrees clockwise and then takes a right turn. Finally, he turns 90 degrees anticlockwise. Which direction is he facing now?

एक व्यक्ति पूर्व की ओर मुख कर के खड़ा है. वह 270 डिग्री घड़ी की सुई की दिशा में मुड़ता है और फिर दाएँ मुड़ता है. अंत में, वह 90 डिग्री घड़ी की सुई की विपरीत दिशा में मुड़ता है. अब वह किस दिशा की ओर उन्मुख है?

(a) West /पश्चिम

(b) South /दक्षिण

(c) North /उत्तर

(d) East/पूर्व

Q18. Which set of letters when sequentially placed at the gaps in the given letter series shall complete it?

निम्नलिखित प्रश्न में, दिए गए पत्र श्रृंखला में अंतराल पर अनुक्रमिक रूप से रखे जाने पर अक्षरों का कौन सा सेट इसे पूरा करेगा?

p\_rt\_rr\_p\_rt

(a) rprr

(b) rrrp

(c) ptrr

(d) tprt

Q19. A series is given with one term missing. Choose the correct alternative from the given ones that will complete the series.

एक श्रृंखला दी गई है जिसमें एक टर्म अज्ञात है आपको दिए गए विकल्पों में से उस विकल्प का चयन करना है जो इस श्रृंखला को पूरा करेगा?

TP, UQ, WS, ZV, ?

(a) EY

(b) DZ

(c) CY

(d) CZ

TEST SERIES

Bilingual



RRB NTPC 2019

STAGE-I

35 TOTAL TESTS

Validity : 2 Months

**Q20. A series is given with one term missing. Choose the correct alternative from the given ones that will complete the series.**

एक श्रृंखला दी गई है जिसमें एक टर्म अज्ञात हैं आपको दिए गए विकल्पों में से उस विकल्प का चयन करना है जो इस श्रृंखला को पूरा करेगा?

RP, DM, SQ, CL, TR, ?

- (a) AJ
- (b) US
- (c) DM
- (d) BK

**Q21. In the following question, a series is given with one term missing. Choose the correct alternative from the given ones that will complete the series.**

निम्नलिखित प्रश्न में, एक श्रृंखला दी गयी है जिसमें एक टर्म अज्ञात है. दिए गए विकल्पों में से, उस शब्द का चयन करें जो श्रृंखला को पूरा करेगा.

1	2	3
11	7	5
120	45	?

- (a) 19
- (b) 16
- (c) 15
- (d) 17

**Q22. Rahul starts and walks towards the south, he then turns to his right and walks 5 kms, then again turns left and walks 3 kms and then again turns left and walks 5 kms. In which direction is he from the starting point?**

राहुल दक्षिण की ओर चलना शुरू करता है, फिर वह अपने दाएँ ओर मुड़ता है और 5 किलोमीटर चलता है, फिर वह बाएँ मुड़ता है और 3 किलोमीटर चलता है और फिर बाएँ मुड़ता है और 5 किलोमीटर चलता है। वह शुरुआती बिंदु से किस दिशा में है?

- (a) NORTH/उत्तर
- (b) SOUTH/दक्षिण
- (c) EAST/पूर्व
- (d) WEST/पश्चिम

**Q23. Consider the given statement/s to be true and decide which of the given conclusions/assumptions can definitely be drawn from the given statement.**

आपको मानना है कि दिया गया वक्तव्य सत्य है, चाहे वह सामान्यतः ज्ञात तथ्यों से भिन्न प्रतीत होता हो। आपको निर्णय करना है कि दिए गए वक्तव्य से निश्चित रूप से कौन-सा/से सही निष्कर्ष/पूर्वधारणा निकाली जा सकती है?


**Statement:** All states having dams face no water problem. One of the states has no dam.

**कथन:** सभी राज्य जिनमें बांध है पानी की किसी समस्या का सामना नहीं करते हैं. राज्यों में से एक में कोई बांध नहीं है

**Conclusions/ निष्कर्ष: I.** It may be facing water problem/ यह संभवत पानी की समस्या का सामना कर रहा है.

**II.** Dams solve water problem/ बांध पानी की समस्या का समाधान करते हैं.

TEST SERIES  
STAGE-II



**RRB JE PRIME  
ELECTRICAL**

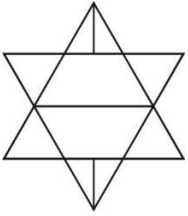
**30+ TOTAL TESTS**

Validity : 2 Months

- (a) Only conclusion I follows / केवल निष्कर्ष I अनुसरण करता है.  
 (b) Only conclusion II follows/ केवल निष्कर्ष II अनुसरण करता है.  
 (c) Both conclusion I and conclusion II follow/ I और II निष्कर्ष दोनों अनुसरण करते हैं.  
 (d) Neither conclusion I nor conclusion II follows/ न तो निष्कर्ष I और ना ही निष्कर्ष II अनुसरण करता है.

**Q24. How many triangles are there in this figure?**

दी गयी आकृति में कितने त्रिभुज हैं?



- (a) 10  
 (b) 12  
 (c) 14  
 (d) 16

**Q25. Which of the answer figures illustrate the relationship between:**


कौन सी आकृति दिए गए विकल्पों के बीच के संबंधों को दर्शाता है

**Delhi, Sri Lanka, Asia**

दिल्ली, श्री लंका, एशिया

- (a)
- (b)
- (c)
- (d)

TEST SERIES  
 STAGE-II



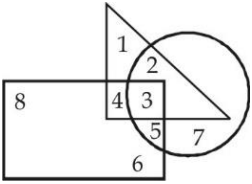
**RRB JE PRIME  
 CS & IT**

**30+ TOTAL TESTS**

Validity : 2 Months

**Q26. In the following figure, triangle represents teachers, square represents merchants and circle represents social workers. Which number space represents Teachers who are social workers?**

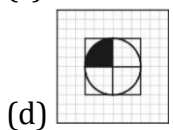
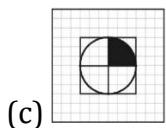
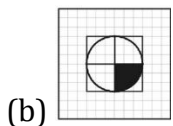
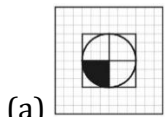
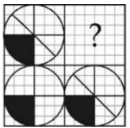
निम्नलिखित आकृति में, त्रिभुज शिक्षकों का प्रतिनिधित्व करता है, वर्ग व्यापारियों का प्रतिनिधित्व करता है और सर्कल सामाजिक श्रमिकों का प्रतिनिधित्व करता है. कौन सी संख्या उन शिक्षकों का प्रतिनिधित्व करता है जो सामाजिक कार्यकर्ता हैं?



- (a) 3
- (b) 2
- (c) 4
- (d) 5

**Q27. Which answer figure will complete the pattern in the question figure?**

कौन सी उत्तर आकृति प्रश्न आकृति में पैटर्न को पूरा करेगी?



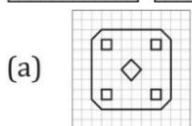
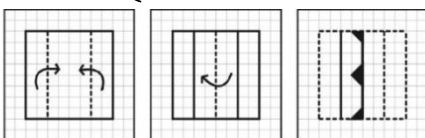
TEST SERIES  
Bilingual

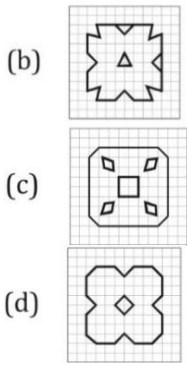
**RRB NTPC 2019**  
**STAGE-I**  
**35 TOTAL TESTS**

Validity : 2 Months

**Q28. A piece of paper is folded and cut as shown below in the question figures. From the given answer figures, indicate how it will appear when opened.**

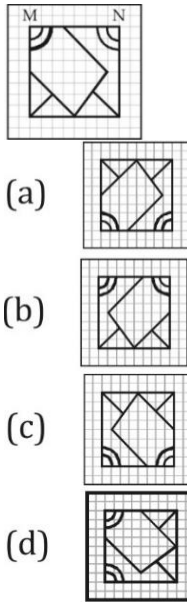
एक कागज़ के टुकड़े को मोड़ कर पंच किया गया जैसा कि नीचे दर्शाया गया है. नीचे दिए गये चित्रों से ज्ञात कीजिये कि खोले जाने पर यह किस प्रकार का दिखेगा.





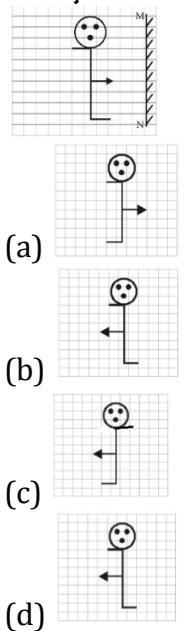
**Q29. If a mirror is placed on the line MN, then which of the answer figures is the right image of the given figure?**

यदि रेखा MN पर एक दर्पण रखा जाए, तो निम्नलिखित में से कौन सा उत्तर चित्र प्रशिक्षक कि सही छवि होगी?




**Q30. If a mirror is placed on the line MN, then which of the answer figure is the right image?**

यदि एक दर्पण को MN रेखा पर रखा जाता है, तो उत्तर आकृति में से सही छवि कौन सी है?



TEST SERIES  
STAGE-II



**RRB JE PRIME  
ELECTRONICS**

**30+ TOTAL TESTS**

Validity : 2 Months