

Combined Graduate Level Examination Tier II 2022

Roll Number	
Candidate Name	
Venue Name	Maa Kamla Digital Center
Exam Date	07/03/2023
Exam Time	9:00 AM - 12:00 PM
Subject	CGLE 2022 Tier II Paper I

Section : Mathematical Abilities

Q.1 A ने ₹75,000 के निवेश के साथ एक व्यवसाय शुरू किया और 5 महीने बाद ₹80,000 के निवेश के साथ B भी इस व्यवसाय में शामिल हो जाता है। 1 वर्ष के बाद उन्हें ₹4,08,800 का लाभ प्राप्त होता है। A और B का हिस्सा (₹ में) ज्ञात कीजिए।

- Ans
- 1. 2,48,000 and 1,60,800
 - 2. 2,52,000 and 1,56,800
 - 3. 2,49,500 and 1,59,300
 - 4. 2,50,000 and 1,58,800

Question ID : 264330121714

Status : Answered

Chosen Option : 2

Q.2 यदि $x = \sqrt{64} + \sqrt{121} - \sqrt{169}$ है, तो x^2 का मान ज्ञात करें।

- Ans
- 1. 25
 - 2. 16
 - 3. 36
 - 4. 49

Question ID : 264330122832

Status : Answered

Chosen Option : 3

Q.3 बेलन का आयतन क्या होगा यदि बेलन की त्रिज्या 10 cm और ऊँचाई 20 cm हो? ($\pi = 3.14$ लें)

- Ans
- 1. 6260 cm³
 - 2. 6280 cm³
 - 3. 5306 cm³
 - 4. 5280 cm³

Question ID : 26433058253

Status : Answered

Chosen Option : 2

Q.4 680 मीटर ऊँची एक इमारत के शीर्ष से एक टावर के शीर्ष का उन्नयन कोण 45° है तथा उसी इमारत के आधार से उस टावर के शीर्ष का उन्नयन कोण 60° है। टावर की ऊँचाई (मीटर में) क्या है?

- Ans
- 1. $310(3 + \sqrt{3})$
 - 2. $340(3 - \sqrt{3})$
 - 3. $340(3 + \sqrt{3})$
 - 4. $310(3 - \sqrt{3})$

Question ID : 264330121759
Status : Answered
Chosen Option : 3

Q.5 Rs.60 प्रति kg की लागत वाले कितने kg चावल को Rs.42 प्रति kg की लागत वाले 24 kg चावल के साथ मिलाया जाना चाहिए, ताकि परिणामी मिश्रण को Rs.56 प्रति kg की दर से बेचने पर 12% का लाभ हो सके?

- Ans
- 1. 21.2 kg
 - 2. 19.2 kg
 - 3. 22 kg
 - 4. 20 kg

Question ID : 26433056302
Status : Answered
Chosen Option : 2

Q.6 एक प्रिज्म और एक पिरामिड का समान आधार और समान ऊंचाई है। प्रिज्म और पिरामिड के आयतनों का अनुपात ज्ञात कीजिए।

- Ans
- 1. 3:1
 - 2. 1:3
 - 3. 2:3
 - 4. 3:2

Question ID : 264330121752
Status : Answered
Chosen Option : 2

Q.7 350m लंबी एक मालगाड़ी 1250 m लंबी सुरंग को 80 सेकंड में पार करती है। मालगाड़ी की चाल क्या है?

- Ans
- 1. 72 km/h
 - 2. 56 km/h
 - 3. 64 km/h
 - 4. 78 km/h

Question ID : 264330126389
Status : Answered
Chosen Option : 1

Q.8 दिए गए डेटा का बहुलक ज्ञात कीजिए।
5, 7, 9, 7, 3, 7, 5, 7, 8, 6, 7

- Ans
- 1. 1.5
 - 2. 6
 - 3. 7
 - 4. 3

Question ID : 264330122996
Status : Answered
Chosen Option : 3

Q.9 यदि $2^x + 3^y = 17$ तथा $2^{x+2} - 3^{y+1} = 5$ है, तो:

- Ans
- 1. $x = 1, y = 2$
 - 2. $x = 1, y = 3$
 - 3. $x = 3, y = 3$
 - 4. $x = 3, y = 2$

Question ID : 264330121656
Status : Answered
Chosen Option : 4

Q.10 रजनीश ने एक बैंक से ₹1,500 की राशि उधार ली और दो समान वार्षिक किश्तों में ब्याज सहित पूरी राशि चुका दी, जहाँ रजनीश ने बैंक से उधार लेने के एक वर्ष बाद पहली किश्त का भुगतान किया। यदि ब्याज की दर 40% वार्षिक थी और ब्याज वार्षिक रूप से चक्रवृद्धि होता था, तो रजनीश द्वारा भुगतान की गई प्रत्येक किश्त का मूल्य (₹ में) ज्ञात करें।

- Ans
- 1. 1125
 - 2. 1225
 - 3. 1470
 - 4. 1350

Question ID : 264330122844
Status : Answered
Chosen Option : 3

Q.11 P, Q और R अकेले कार्य करते हुए किसी कार्य को क्रमशः 5 दिन, 10 दिन और 15 दिन में पूरा कर सकते हैं। P और Q पहले दिन कार्य करते हैं, P और R दूसरे दिन कार्य करते हैं तथा P और Q तीसरे दिन कार्य करते हैं तथा इसी क्रम में कार्य करते हैं जब तक कार्य पूरा नहीं हो जाता। कार्य कितने दिन में पूरा होगा?

- Ans
- 1. $\frac{5}{2}$
 - 2. $\frac{13}{2}$
 - 3. $\frac{7}{2}$
 - 4. $\frac{9}{2}$

Question ID : 264330121728
Status : Answered
Chosen Option : 3

Q.12 एक व्यक्ति 8 शॉट में से 5 बार निशाना लगा सकता है। यदि वह 10 शॉट फायर करता है, तो इसकी क्या प्रायिकता होगी कि वह दो बार निशाना लगा लेगा?

Ans

✗ 1. $\frac{1135 \times 3^8}{8^{10}}$

✗ 2. $\frac{1175 \times 3^8}{8^{10}}$

✓ 3. $\frac{1125 \times 3^8}{8^{10}}$

✗ 4. $\frac{1165 \times 3^8}{8^{10}}$

Question ID : 264330121651

Status : Not Answered

Chosen Option : --

Q.13 यदि $(A + B)$ का 20% = $(A - B)$ का 30% है, तो B का कितना प्रतिशत A के बराबर है?

Ans

✗ 1. 300%

✗ 2. 100%

✓ 3. 500%

✗ 4. 400%

Question ID : 26433058905

Status : Answered

Chosen Option : 3

Q.14 एक राशि साधारण ब्याज पर 9 वर्ष में स्वतः की तिगुनी हो जाती है। ब्याज की वार्षिक दर ज्ञात कीजिए।

Ans

✗ 1. $38\frac{2}{9}\%$

✓ 2. $22\frac{2}{9}\%$

✗ 3. $27\frac{1}{9}\%$

✗ 4. $33\frac{1}{3}\%$

Question ID : 264330126378

Status : Answered

Chosen Option : 2

Q.15 यदि $a \cot \theta + b \operatorname{cosec} \theta = p$ और $b \cot \theta + a \operatorname{cosec} \theta = q$ है, तो $p^2 - q^2$ निम्न में से किसके बराबर है?

- Ans
- ✓ 1. $b^2 - a^2$
 - ✗ 2. $b - a$
 - ✗ 3. $a^2 + b^2$
 - ✗ 4. $a^2 - b^2$

Question ID : 264330126422
Status : Answered
Chosen Option : 1

Q.16 PQRS एक चक्रीय चतुर्भुज है। यदि $\angle P$, $\angle R$ का तीन गुना और $\angle S$, $\angle Q$ का चार गुना है, तो $\angle S + \angle R$ का योग क्या होगा?

- Ans
- ✗ 1. 169°
 - ✗ 2. 171°
 - ✓ 3. 189°
 - ✗ 4. 187°

Question ID : 264330121660
Status : Answered
Chosen Option : 3

Q.17 दिया गया है कि $\triangle ABC \cong \triangle PQR$, $AB = 5 \text{ cm}$, $\angle B = 40^\circ$, और $\angle A = 80^\circ$ । निम्नलिखित में से कौन-सा विकल्प सही है?

- Ans
- ✗ 1. $PQ = 5 \text{ cm}$ और $\angle P = 60^\circ$
 - ✓ 2. $PQ = 5 \text{ cm}$ और $\angle R = 60^\circ$
 - ✗ 3. $QR = 5 \text{ cm}$ और $\angle Q = 60^\circ$
 - ✗ 4. $QR = 5 \text{ cm}$ और $\angle R = 60^\circ$

Question ID : 264330126434
Status : Answered
Chosen Option : 2

Q.18 उन बिंदुओं के निर्देशांक ज्ञात कीजिए जिनमें आरेख $57x - 19y = 399$ निर्देशांक अक्षों को काटता है।

- Ans
- ✗ 1. x- अक्ष पर $(-7,0)$ और y- अक्ष पर $(0,21)$
 - ✓ 2. x- अक्ष पर $(7,0)$ और y- अक्ष पर $(0,-21)$
 - ✗ 3. x-अक्ष पर $(7,0)$ और y- अक्ष पर $(0,21)$
 - ✗ 4. x- अक्ष पर $(-7,0)$ और y- अक्ष पर $(0,-21)$

Question ID : 264330121743
Status : Answered
Chosen Option : 2

Q.19 निम्नलिखित संख्या समुच्चयों का औसत ज्ञात करें।
693, 456, 876, 532, 934, 691, 596, 398, 682

- Ans
- 1. 550.50
 - 2. 750.80
 - 3. 725.90
 - 4. 650.89

Question ID : 26433061239
Status : Answered
Chosen Option : 4

Q.20 एक क्लियरेंस सेल में, एक दुकानदार 45% की छूट देता है। यदि किसी ग्राहक ने सेल के दौरान ₹330 में एक शर्ट खरीदी, तो उस शर्ट का अंकित मूल्य क्या है?

- Ans
- 1. ₹550
 - 2. ₹500
 - 3. ₹650
 - 4. ₹600

Question ID : 26433058790
Status : Answered
Chosen Option : 4

Q.21 $(\sin \theta + \operatorname{cosec} \theta)^2 + (\cos \theta + \sec \theta)^2 = ?$

- Ans
- 1. $5 + \tan^2 \theta + \cot^2 \theta$
 - 2. $7 + \tan^2 \theta - \cot^2 \theta$
 - 3. $5 + \tan^2 \theta - \cot^2 \theta$
 - 4. $7 + \tan^2 \theta + \cot^2 \theta$

Question ID : 264330126430
Status : Answered
Chosen Option : 3

Q.22 यदि चार अंकों की संख्या $463y$, 7 से विभाज्य है, तो y का मान क्या होगा?

- Ans
- 1. 3
 - 2. 4
 - 3. 6
 - 4. 5

Question ID : 264330122833
Status : Answered
Chosen Option : 2

Q.23 $\frac{0.7 \times 0.7 \times 0.7 + 0.3 \times 0.3 \times 0.3}{0.7 \times 0.7 - 0.7 \times 0.3 + 0.3 \times 0.3}$ का मान _____ है।

- Ans
- 1. -1
 - 2. 1
 - 3. 2
 - 4. 3

Question ID : 26433066408
Status : Answered
Chosen Option : 2

Q.24 एक समलंब चतुर्भुज ABCD में, AB और DC एक दूसरे के समानांतर हैं तथा उनके बीच की लंबवत दूरी 8 m है। साथ ही, (AD) = (BC) = 10 m, और (AB) = 15 m < (DC) है। समलंब चतुर्भुज ABCD का परिमाण (m में) क्या होगा?

- Ans
- 1. 50
 - 2. 58
 - 3. 62
 - 4. 66

Question ID : 264330122874
Status : Not Answered
Chosen Option : --

Q.25 प्रति दिन 10 घंटे काम करते हुए, 6 व्यक्ति एक निश्चित समय में एक दीवार बना सकते हैं। 12 व्यक्ति प्रति दिन कितने घंटे/मिनट काम करके उतने ही समय में दीवार का निर्माण कर सकते हैं?

- Ans
- 1. 5 घंटे
 - 2. 7 घंटे 30 मिनट
 - 3. 20 घंटे
 - 4. 10 घंटे

Question ID : 26433061599
Status : Answered
Chosen Option : 1

Q.26 यदि दो एल.ई.डी. टी.वी. और एक मोबाइल फोन की कीमत ₹31,000 है, जबकि दो मोबाइल फोन और एक एल.ई.डी. टी.वी. की कीमत ₹35,000 है, तो एक मोबाइल फोन की कीमत ज्ञात करें।

- Ans
- 1. ₹12,500
 - 2. ₹13,500
 - 3. ₹13,000
 - 4. ₹12,000

Question ID : 26433063394
Status : Answered
Chosen Option : 3

Q.27 निम्नलिखित में से कौन सी संख्या 11 से विभाज्य है?

- Ans
- 1. 2378965
 - 2. 5648741
 - 3. 6598321
 - 4. 5214341

Question ID : 264330121707
Status : Answered
Chosen Option : 4

Q.28 यदि किसी सम बहुभुज का एक अंतःकोण किसी सम दसभुज के एक अंतःकोण का $\frac{15}{16}$ गुना है, तो बहुभुज के विकर्णों की संख्या ज्ञात कीजिए।

- Ans
- 1. 35
 - 2. 14
 - 3. 20
 - 4. 2

Question ID : 264330121756
Status : Answered
Chosen Option : 3

Q.29 11 विभिन्न प्रेक्षणों के एक समुच्चय की माधिका 73.2 है। यदि समुच्चय के सबसे बड़े पांच प्रेक्षणों में से प्रत्येक में 3 की वृद्धि की जाती है, तो इस नए समुच्चय की माधिका :

- Ans
- 1. 3 घट जाती है
 - 2. 3 बढ़ जाती है
 - 3. मूल समुच्चय की माधिका की 3 गुना हो जाती है
 - 4. मूल समुच्चय की माधिका के समान ही रहती है

Question ID : 264330121733
Status : Answered
Chosen Option : 4

Q.30 तीन अंकों की सबसे बड़ी संख्या जो 3, 5 और 9 से विभाजित होने पर समान शेषफल 2 देती है, _____ है।

- Ans
- 1. 984
 - 2. 998
 - 3. 999
 - 4. 992

Question ID : 26433085415
Status : Answered
Chosen Option : 4

Section : Reasoning and General Intelligence

Q.1 यदि + का अर्थ - है, - का अर्थ \times है, \times का अर्थ \div है, और \div का अर्थ + है, तो निम्नलिखित व्यंजक का मान क्या होगा?

$$3 \div 6 + 3 - 4 \times 4 = ?$$

Ans 1. 6

2. 5

3. 8

4. 4

Question ID : 26433068610

Status : Answered

Chosen Option : 1

Q.2 नीचे एक प्रश्न और उसके बाद दो कथन क्रमांक (I) और (II) दिए गए हैं। आपको यह तय करना है कि कथनों में दिया गया डाटा प्रश्न का उत्तर देने के लिए पर्याप्त है या नहीं। दोनों कथनों का अध्ययन कीजिए और उपयुक्त उत्तर का चयन कीजिए।

प्रश्न: चार व्यक्ति A, B, C और D एक सीधी पंक्ति में दक्षिण की ओर मुख करके बैठे हैं। दाएँ छोर पर कौन बैठा है?

कथन:

(I) B और D के बीच में केवल दो व्यक्ति बैठे हैं; A, B के ठीक बाएं बैठा है।

(II) B और C के बीच में केवल एक व्यक्ति बैठा है; A, C के ठीक दाएं बैठा है।

Ans 1. कथन I में दिया गया डाटा अकेले प्रश्न का उत्तर देने के लिए पर्याप्त है जबकि कथन II में दिया गया डाटा प्रश्न का उत्तर देने के लिए पर्याप्त नहीं है

2. कथन I और II दोनों में दिया गया डाटा मिलकर प्रश्न का उत्तर देने के लिए पर्याप्त है

3. या तो कथन I में दिया गया डाटा अकेले या कथन II में दिया गया डाटा अकेले प्रश्न का उत्तर देने के लिए पर्याप्त है

4. कथन II में दिया गया डाटा अकेले प्रश्न का उत्तर देने के लिए पर्याप्त है जबकि कथन I में दिया गया डाटा प्रश्न का उत्तर देने के लिए पर्याप्त नहीं है

Question ID : 264330121194

Status : Answered

Chosen Option : 2

Q.3 A # B' का अर्थ है 'A, B का भाई है'।
'A @ B' का अर्थ है 'A, B की पुत्री है'।
'A & B' का अर्थ है 'A, B का पति है'।
'A % B' का अर्थ है 'A, B की पत्नी है'।
यदि D @ N @ H & Y @ F % V है, तो Y, D से किस प्रकार संबंधित है?

Ans 1. नानी

2. पुत्री की पुत्री

3. भांजी

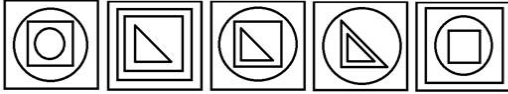
4. माँ

Question ID : 264330126286

Status : Answered

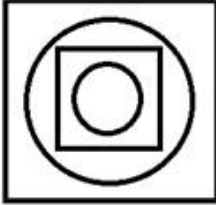
Chosen Option : 1

Q.4 नीचे दी गई पाँच आकृतियों में से चार किसी प्रकार से एक समान हैं और एक असंगत है। उस असंगत आकृति का चयन करें।

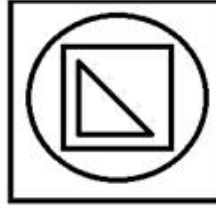


Ans

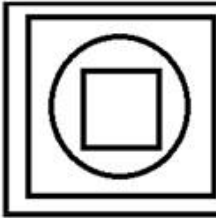
✗ 1.



✓ 2.



✗ 3.



✗ 4.

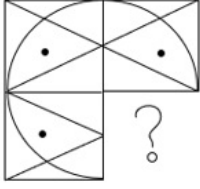


Question ID : 264330128894

Status : Answered

Chosen Option : 4

Q.5 विकल्पों में से उस आकृति का चयन कीजिए, जो प्रश्न-चिह्न(?) को प्रतिस्थापित कर सकती है और दिए गए पैटर्न को पूरा कर सकती है।



Ans

- ✗ 1.
- ✗ 2.
- ✗ 3.
- ✓ 4.

Question ID : 26433083132
Status : Answered
Chosen Option : 4

Q.6 नीचे एक प्रश्न दिया गया है जिसके बाद दो कथन I और II दिए गए हैं। दोनों कथनों को ध्यानपूर्वक पढ़कर तय कीजिए कि इनमें से कौन सा कथन, प्रश्न का उत्तर देने के लिए पर्याप्त है।
छ: व्यक्ति - K, M, N, P, Q और R एक गोल मेज के परितः केंद्र की ओर अभिमुख होकर बैठे हैं। P के बाईं ओर दूसरे स्थान पर कौन बैठा है?
(I) K, P के ठीक दाएं बैठा है। P और Q के बीच केवल दो व्यक्ति बैठे हैं। R, M के दाईं ओर दूसरे स्थान पर बैठा है।
(II) N और M के बीच केवल दो व्यक्ति बैठे हैं। Q, M का निकटतम पड़ोसी है। Q और K के बीच केवल एक व्यक्ति बैठा है।

- Ans ✓ 1. कथन I का डेटा अकेले प्रश्न का उत्तर देने के लिए पर्याप्त है जबकि कथन II का डेटा पर्याप्त नहीं है।
✗ 2. कथन II का डेटा अकेले प्रश्न का उत्तर देने के लिए पर्याप्त है जबकि कथन I का डेटा पर्याप्त नहीं है।
✗ 3. कथन I और II के डेटा मिलकर भी प्रश्न का उत्तर देने के लिए पर्याप्त नहीं है।
✗ 4. कथन I और II के डेटा मिलकर प्रश्न का उत्तर देने के लिए पर्याप्त हैं।

Question ID : 264330121434
Status : Answered
Chosen Option : 4

Q.7 निम्नलिखित शब्दों में तीन शब्द किसी न किसी प्रकार एक समान हैं और इसलिए एक समूह का निर्माण करते हैं। कौन-सा शब्द उस समूह से संबंधित नहीं है? (शब्दों को अर्थपूर्ण अंग्रेजी शब्दों के रूप में माना जाना चाहिए और शब्द में अक्षरों की संख्या / व्यंजनों / स्वरों की संख्या के आधार पर उन्हें समूहबद्ध नहीं किया जाना चाहिए)

- Ans
- 1. अध्यापक (Teacher)
 - 2. बढ़ई (Carpenter)
 - 3. इंजीनियर (Engineer)
 - 4. डॉक्टर (Doctor)

Question ID : 26433065632

Status : Answered

Chosen Option : 2

Q.8 इस प्रश्न में, एक कथन के बाद दो निष्कर्ष दिए गए हैं। दोनों में से कौन-सा/से निष्कर्ष सत्य है/हैं?

कथन: $Z = E \geq R > G < Y > Q = F$

निष्कर्ष:

I. $R < F$

II. $R \geq Z$

- Ans
- 1. निष्कर्ष I और II दोनों सत्य हैं।
 - 2. केवल निष्कर्ष I सत्य है।
 - 3. न तो निष्कर्ष I और न ही II सत्य है।
 - 4. केवल निष्कर्ष II सत्य है।

Question ID : 26433057324

Status : Answered

Chosen Option : 3

Q.9 इस प्रश्न में एक कथन के बाद दो कार्यवाहियाँ क्रमांक I और II दी गई हैं। आपको कथन में दी गई सभी बातों को सत्य मानना है और कथन में दी गई जानकारी के आधार पर यह तय करना है कि कौन-सी कार्यवाही/कार्यवाहियाँ करने के लिए तार्किक रूप से अनुसरण करती है/हैं।
कथन: किसी कंपनी के तकनीकी अनुभाग में कुछ गंभीर त्रुटियाँ पाई गईं।
कार्यवाही:

I. तकनीकी त्रुटियों की जाँच के लिए एक कुशल तकनीकी टीम नियुक्त की जानी चाहिए।

II. अनियमितताओं में शामिल सभी कर्मचारियों को कारण स्पष्टीकरण नोटिस जारी किया जाना चाहिए।

- Ans
- 1. केवल I अनुसरण करता है
 - 2. केवल II अनुसरण करता है
 - 3. न तो I न ही II अनुसरण करता है
 - 4. I और II दोनों अनुसरण करते हैं

Question ID : 264330123206

Status : Answered

Chosen Option : 1

Q.10 निम्नलिखित में से कौन से अक्षर-समूह को, # और % को प्रतिस्थापित करना चाहिए ताकि :: के बाईं ओर के अक्षर-समूह युग्म के बीच का पैटर्न और संबंध वैसा ही हो जैसा कि :: के दाईं ओर के अक्षर-समूह युग्म का है?

: KNE :: PQV : %

- Ans
- ✓ 1. # = NKF, % = MTU
 - ✗ 2. # = MOB, % = RTT
 - ✗ 3. # = HQD, % = MTV
 - ✗ 4. # = NOB, % = SRY

Question ID : 264330121404

Status : Answered

Chosen Option : 1

Q.11 तीन कथन दिए गए हैं, जिनके बाद I, II और III से क्रमांकित तीन निष्कर्ष दिए गए हैं। कथनों को सत्य मानते हुए, भले ही वे सामान्य रूप से ज्ञात तथ्यों से भिन्न प्रतीत होते हों, निर्णय लीजिए कि कौन-सा/से निष्कर्ष कथनों का तार्किक रूप से अनुसरण करता/करते है/हैं।

कथन:

कुछ चूड़ियाँ, कंगन हैं।

सभी चैन, अंगूठियाँ हैं।

कुछ कंगन, चैन हैं।

निष्कर्ष:

(I) कुछ चूड़ियाँ, अंगूठियाँ हैं।

(II) कुछ चैन, चूड़ियाँ हैं।

(III) कुछ अंगूठियाँ, कंगन हैं।

- Ans
- ✓ 1. केवल निष्कर्ष III अनुसरण करता है।
 - ✗ 2. निष्कर्ष I और III दोनों अनुसरण करते हैं।
 - ✗ 3. केवल निष्कर्ष I अनुसरण करता है।
 - ✗ 4. निष्कर्ष I और II दोनों अनुसरण करते हैं।

Question ID : 26433068963

Status : Answered

Chosen Option : 2

Q.12 गणितीय चिह्नों के उस सही संयोजन का चयन करें, जिसे दिए गए समीकरण में * चिह्नों के स्थान पर क्रमिक रूप से रखे जाने पर समीकरण संतुलित हो जाए।

$$11 * 7 * 345 * 5 * 31 = 115$$

- Ans
- ✗ 1. + × + -
 - ✓ 2. × + + -
 - ✗ 3. + - + ×
 - ✗ 4. + × + -

Question ID : 26433068109

Status : Answered

Chosen Option : 2

Q.13 अमित अपनी कक्षा में ऊपर से 7वें और नीचे से 26वें स्थान पर है। कक्षा में कितने छात्र हैं?

- Ans
- 1. 27
 - 2. 31
 - 3. 33
 - 4. 32

Question ID : 264330121141
 Status : Answered
 Chosen Option : 4

Q.14 दिए गए विकल्पों में से उस आकृति का चयन करें जो निम्नलिखित श्रृंखला में प्रश्न चिह्न (?) को प्रतिस्थापित कर सकती है।

+	⊕		A	∞		B	A	≠	
	\$		⊕	≠		C		∞	?
∞	≠	∞	≠	\$	\$	A	B		

Ans

- 1.

∞		D
A	B	C
- 2.

A	B	C
∞		D
- 3.

	D	C
		B
	∞	A
- 4.

E	C	B
		A
		∞

Question ID : 264330101257
 Status : Answered
 Chosen Option : 1

Q.15 एक कूट भाषा में 'SLAIN' को 'PKCNU' लिखा जाता है और 'DENT' को 'VPGF' लिखा जाता है। उसी भाषा में 'CUBOID' को कैसे लिखा जाएगा?

- Ans
- 1. FJQDWE
 - 2. EWDPKE
 - 3. FKQDWE
 - 4. FKQDVF

Question ID : 26433068947
 Status : Answered
 Chosen Option : 3

Q.16 दिए गए विकल्पों में से वह संख्या चुनिए, जो निम्नलिखित श्रृंखला में प्रश्न-चिह्न (?) को प्रतिस्थापित कर सके।

242, 288, ?, 392, 450

Ans 1. 324

2. 316

3. 338

4. 375

Question ID : 26433074537

Status : Answered

Chosen Option : 3

Q.17 A # B' का अर्थ है 'A, B का भाई है'।

'A @ B' का अर्थ है 'A, B की पुत्री है'।

'A & B' का अर्थ है 'A, B का पति है'।

'A % B' का अर्थ है 'A, B की पत्नी है'।

यदि Z% X # C @ V & B @ N है, तो Z, B से किस प्रकार संबंधित है?

Ans 1. सास

2. पुत्रवधू

3. माता

4. पुत्री

Question ID : 264330126291

Status : Answered

Chosen Option : 2

Q.18 उस विकल्प का चयन करें जो उन अक्षरों का प्रतिनिधित्व करता है, जिन्हें निम्नलिखित रिक्त स्थानों में बाएं से दाएं रखे जाने पर अक्षर-श्रृंखला पूरी हो जाएगी।

SCR_WS_R_W_C_GWS_RH_

Ans 1. HDFSRCW

2. EDFSRDW

3. ECFSRCW

4. GDFSRCW

Question ID : 264330126280

Status : Answered

Chosen Option : 4

Q.19 निर्देश: एक कथन के बाद दो अनुमान I और II दिए गए हैं। यह मानते हुए कि दिया गया कथन सत्य है, भले ही यह सामान्य रूप से ज्ञात तथ्यों से भिन्न प्रतीत होता हो, तय करें कि दिए गए अनुमानों में से कौन सा /से अनुमान कथन का तार्किक रूप से अनुसरण करता है/करते हैं।

कथन:

टीम-X और टीम-Y के बीच एक फुटबॉल मैच में, टीम-Y द्वारा किए गए गोलों की कुल संख्या 5 थी, जिनमें से 3 गोल बाएँ पैर वाले खिलाड़ी द्वारा किए गए थे।

अनुमान:

- I. बाएँ पैर वाला खिलाड़ी गोल करने में माहिर था।
- II. टीम-Y के 60% खिलाड़ी बाएँ पैर वाले हैं।

Ans

1. I और II, दोनों अनुसरण करते हैं
2. केवल I अनुसरण करता है
3. न तो I और न ही II अनुसरण करता है
4. केवल II अनुसरण करता है

Question ID : 264330128899

Status : Answered

Chosen Option : 2

Q.20 नीचे दी गयी जानकारी दिए गए अक्षरों के लिए संख्या कूट दर्शाती है। संख्याओं के उस संयोजन का चयन कीजिए जिससे कि अक्षरों को तदनुसार व्यवस्थित करने से एक सार्थक शब्द बनाया जा सके।

R = 1, E = 2, A = 3, C = 4, T = 5, I = 6, V = 7, E = 8

Ans

1. 7,2,1,3,8,4,5,6
2. 4,1,2,3,5,6,7,8
3. 4,3,1,5,6,7,8,2
4. 4,1,2,3,5,8,7,6

Question ID : 264330121087

Status : Answered

Chosen Option : 2

Q.21 एक निश्चित कूट भाषा में, 'POLISH' को '89' लिखा जाता है और 'CLIP' को '72' लिखा जाता है। उसी भाषा में 'CONTROL' को कैसे लिखा जाएगा?

Ans

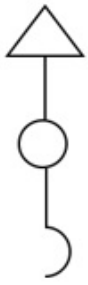
1. 99
2. 92
3. 89
4. 106

Question ID : 264330126265

Status : Answered


Chosen Option : 4

Q.22 उस विकल्प का चयन करें, जिसमें निम्न आकृति सन्निहित है। (घूर्णन की अनुमति नहीं है)

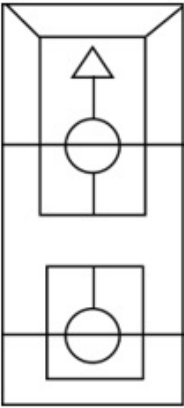


Ans

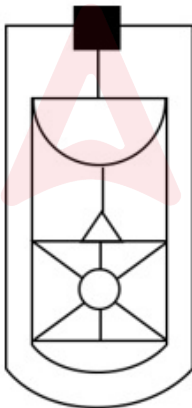
X 1.



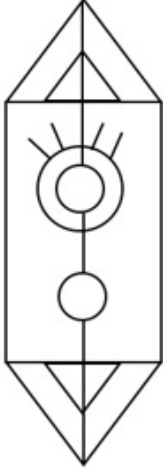
X 2.



X 3.



✓ 4.



Question ID : 264330121395

Status : Answered

Chosen Option : 4

Q.23 इस प्रश्न में दो कथन I और II दिए गए हैं। ये कथन स्वतंत्र कारण या स्वतंत्र कारणों या एक उभयनिष्ठ कारण के प्रभाव हो सकते हैं। एक कथन दूसरे कथन का प्रभाव हो सकता है। दोनों कथनों को पढ़ें और सही उत्तर का चयन करें।

I. पिछले दो वर्षों में कंपनी P के 22% कर्मचारियों को नौकरी से निकाला गया।

II. पिछले दो वर्षों में कंपनी P ने अपनी कई प्रमुख संपत्तियों को बेच दिया है।

Ans

✗ 1. II कारण है और I इसका संभावित प्रभाव है।

✗ 2. I कारण है और II इसका संभावित प्रभाव है।

✓ 3. I और II दोनों एक उभयनिष्ठ कारण के प्रभाव हैं।

✗ 4. I और II दोनों स्वतंत्र कारण हैं।

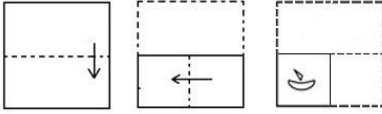
Question ID : 264330123146

Status : Answered

Chosen Option : 3

Adda247

Q.24 नीचे एक कागज के एक टुकड़े को मोड़ने का क्रम और मुड़े हुए कागज को काटने का तरीका दर्शाया गया है। दिए गए विकल्पों में से वह आकृति चुनें जो कागज के खुले हुए रूप से सर्वाधिक मिलती-जुलती हो।

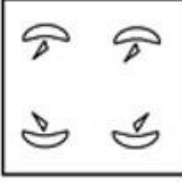


Ans

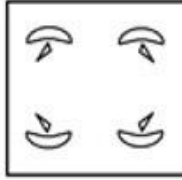
✗ 1.



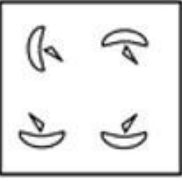
✗ 2.



✓ 3.



✗ 4.



Question ID : 264330126302

Status : Answered

Chosen Option : 3

Q.25 निम्नलिखित चार त्रिक में से तीन एक निश्चित तरीके से समान हैं क्योंकि वे आपस में समान गणितीय संक्रियाएं करके निर्मित हुए हैं और इस प्रकार वे एक समूह बनाते हैं। विकल्पों में दिए त्रिकों में से कौन-सा त्रिक उस समूह से संबंधित नहीं है?

Ans ✗ 1. 9 : 17 : 81

✗ 2. 11 : 21 : 121

✗ 3. 2 : 3 : 4

✓ 4. 7 : 15 : 49

Question ID : 264330126248

Status : Answered

Chosen Option : 2

Q.26 सात व्यक्ति एक वृत्ताकार 'खाने की मेज' के परितः केंद्र की ओर अभिमुख होकर बैठे हैं। S, Y के ठीक बाएँ तथा R के दाईं ओर तीसरे स्थान पर बैठा है। R, A के ठीक बाएँ तथा P के ठीक दाएँ बैठा है। A, D के ठीक बाएँ बैठा है। Q, P के ठीक बाएँ बैठा है। यदि D, Y के साथ तथा P, Q के साथ अपना स्थान बदल लेता है, तो D के ठीक दाएँ कौन बैठा होगा?

- Ans
- 1. R
 - 2. Q
 - 3. S
 - 4. P

Question ID : 26433081995

Status : Answered

Chosen Option : 2

Q.27 जब दर्पण को नीचे दिए गए संयोजन के दाईं ओर रखा जाता है तो संयोजन का दर्पण में निर्मित सही प्रतिबिंब का चयन कीजिए।

E d T 5 8 9 ghi

$\begin{array}{c} P \\ | \\ Q \end{array}$

- Ans
- 1. i d g 8 5 9 T b E
 - 2. i b T 5 8 9 ghi
 - 3. i b T 5 8 9 ghi
 - 4. i d g 8 5 9 T b E


Question ID : 264330102480

Status : Answered

Chosen Option : 2

Adda247

Q.28 नीचे दी गई पाँच आकृतियों में से चार किसी प्रकार से एक समान हैं और एक असंगत है। उस असंगत आकृति का चयन करें।




Ans


✗ 1.




✗ 2.



✗ 3.



✓ 4.



Question ID : 264330128893

Status : Answered

Chosen Option : 4

Q.29 उस समुच्चय का चयन कीजिए जिसमें संख्याएँ उसी प्रकार संबंधित हैं जिस प्रकार निम्नलिखित समुच्चयों की संख्याएँ संबंधित हैं।

(नोट: संख्याओं को उसके घटक अंकों में विभाजित किए बिना, पूर्ण संख्याओं पर संक्रियाएँ की जानी चाहिए। उदाहरण के लिए 13 - इसमें 13 पर जोड़ने / घटाने / गुणा करने आदि जैसी संक्रियाओं को 13 में किया जा सकता है। 13 को 1 और 3 में विभाजित करने और फिर 1 और 3 पर गणितीय संक्रियाएँ करने की अनुमति नहीं है)

(18, 39, 60), (27, 48, 69)

Ans ✗ 1. (17, 28, 49)

✓ 2. (35, 56, 77)

✗ 3. (31, 52, 84)

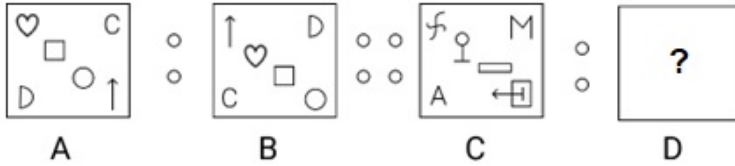
✗ 4. (24, 64, 96)

Question ID : 264330126246

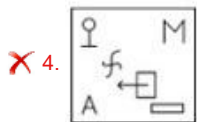
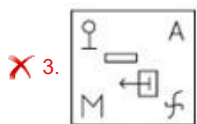
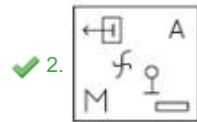
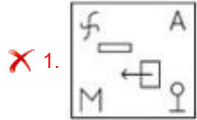
Status : Answered

Chosen Option : 2

Q.30 आकृति A एक निश्चित पैटर्न के अनुसार B से संबंधित है। उसी पैटर्न का अनुसरण करते हुए आकृति C, D से संबंधित है। पैटर्न का अध्ययन करें और उस आकृति का चयन करें, जिसे D के स्थान पर रखा जाना चाहिए।



Ans



Question ID : 264330121403

Status : Answered

Chosen Option : 2

Section : English Language and Comprehension

Q.1 Identify the INCORRECTLY spelt word in the given sentence.
If she had begun earlier, she might have succeeded in finishing the extremely intricate project before the deadline.

Ans ✓ 1. succeeded

✗ 2. intricate

✗ 3. deadline

✗ 4. earlier

Question ID : 26433059972

Status : Answered

Chosen Option : 1

Q.2 Sentences of a paragraph are given below in jumbled order. Arrange the sentences in the correct order to form a meaningful and coherent paragraph.

A) The Sustainable Development Goals (SDGs) were adopted by all United Nations Member States in 2015 to end poverty, reduce inequality and build more peaceful, prosperous societies by 2030.

B) The SDGs cannot be achieved without the realisation of child rights.

C) Also known as the Global Goals, the SDGs are a call to action to create a world where no one is left behind.

D) As world leaders work to deliver on the 2030 promise, children around the globe are standing up to secure their right to good health, quality education, a clean planet and more.

Ans 1. ADBC

2. ACBD

3. ADCB

4. ABDC

Question ID : 264330122779

Status : Answered

Chosen Option : 4

Q.3 Select the most appropriate ANTONYM of the underlined word.

Aunt May thought that Uncle Ken's job as a manager at Firpo's hotel in Shimla was a stable one.

Ans 1. Lucrative

2. Mutable

3. Durable

4. Permanent

Question ID : 26433070536

Status : Answered

Chosen Option : 2

Q.4 Select the most appropriate option to fill in the blank.

The security guard needs a _____ of shoes.

Ans 1. payor

2. pare

3. pear

4. pair

Question ID : 26433058531

Status : Answered

Chosen Option : 4

Q.5 Select the option that expresses the given sentence in indirect speech.

She said impatiently, "I don't need any help."

Ans 1. She said impatiently that she doesn't need any help.

2. She said impatiently that she didn't need any help.

3. She said impatiently she don't need any help.

4. She said impatiently that I don't need any help.

Question ID : 26433059181

Status : Answered

Chosen Option : 2

Q.6 Select the most appropriate option to fill in the blank.
The committee will _____ a survey on the government schemes.

- Ans**
- 1. hold
 - 2. fight
 - 3. conduct
 - 4. originate

Question ID : 26433058500
Status : Answered
Chosen Option : 3

Q.7 Select the correct homonym from the given options to fill in the blank.
The athlete's _____ was badly injured due to a fall on the track.

- Ans**
- 1. toad
 - 2. to
 - 3. toe
 - 4. tow

Question ID : 264330120787
Status : Answered
Chosen Option : 3

Q.8 Select the option that expresses the given sentence in direct speech.
Harry said that he would not be in town on Friday.

- Ans**
- 1. Harry said, "I can't be in town on Friday".
 - 2. Harry said, "I will not be in town on Friday".
 - 3. Harry said, "I must not be in town on Friday".
 - 4. Harry saying, "I will not be in town on Friday".

Question ID : 26433070765
Status : Answered
Chosen Option : 2

Q.9 The following sentence has been split into four segments. Identify the segment that contains a grammatical error.

Everybody stared / when me / entered the / drawing room.

- Ans**
- 1. entered the
 - 2. drawing room
 - 3. Everybody stared
 - 4. when me

Question ID : 26433061482
Status : Answered
Chosen Option : 4

Q.10 The following sentence has been split into four segments. Identify the segment that contains a grammatical error.

Daniel sat on / his new bike / and went afar / a ride.

- Ans**
- 1. Daniel sat on
 - 2. his new bike
 - 3. and went afar
 - 4. a ride

Question ID : 26433061470
Status : Answered
Chosen Option : 3

Q.11 Select the option that can be used as a one-word substitute for the given group of words.

The one who loves mankind

- Ans**
- 1. Optimist
 - 2. Misogynist
 - 3. Pessimist
 - 4. Philanthropist

Question ID : 26433060818
Status : Answered
Chosen Option : 4

Q.12 Select the most appropriate meaning of the highlighted idiom.

The employee took the manager's remark with a pinch of salt

- Ans**
- 1. Ever ready to condemn someone
 - 2. Doubt the truth or value of something
 - 3. Going for the truth
 - 4. Distasteful and boring

Question ID : 264330120743
Status : Answered
Chosen Option : 2

Q.13 Sentences of a paragraph are given below in jumbled order. Arrange the sentences in the correct order to form a meaningful and coherent paragraph.

P. The prices of cooking gas, pulses and vegetables have registered a sharp rise.

Q. In recent years the prices of essential commodities have gone up sharply.

R. The low-income groups and the salaried classes are the worst sufferers.

S. Living has become quite a costly affair these days.

- Ans**
- 1. QSRP
 - 2. RPSQ
 - 3. PQRS
 - 4. SRQP

Question ID : 264330121860
Status : Answered
Chosen Option : 4

Q.14 Select the most appropriate meaning of the given idiom.

Water under the bridge

- Ans
- 1. A seasoned crop with a heavy demand
 - 2. Difficult situations in one's life
 - 3. Past events that are not important anymore
 - 4. Promises that are made to someone and never fulfilled

Question ID : 26433089764

Status : Answered

Chosen Option : 3

Q.15 Select the most appropriate option that can substitute the underlined segment in the given sentence. If there is no need to substitute it, select 'No substitution required'.

Bloomberg Businessweek is not more popular than some other business magazines in the US.

- Ans
- 1. as more popular than
 - 2. the most popular than
 - 3. No substitution required
 - 4. so popular than

Question ID : 26433058619

Status : Answered

Chosen Option : 2

Q.16 Sentences of a paragraph are given below in jumbled order. Arrange the sentences in the correct order to form a meaningful and coherent paragraph.

A. No country has yet achieved the combination of very high human development with a light ecological footprint and the impacts of climate change and biodiversity loss are growing.

B. Compounded by a climate emergency, political polarization and challenged multilateralism, continued conflicts, and forced displacement, the number of people living in poverty rose in 2020 for the first time since 1998 by an estimated 119-124 million and inequalities are growing, and the traditional social contract is no longer working for many.

C. The challenge of reaching Agenda 2030 was already significant, even before the COVID-19 pandemic hit.

D. Today's development challenges are dynamic, interconnected puzzles of multidimensional risk that require systemic solutions and multilateral cooperation is vital in addressing these shared challenges that cross boundaries of geography and time.

- Ans
- 1. CBDA
 - 2. BCDA
 - 3. ABDC
 - 4. DBAC

Question ID : 26433060241

Status : Answered

Chosen Option : 1

Q.17 Select the option that expresses the given sentence in active voice.
A new invention has been made by him.

- Ans 1. He were making a new invention.
 2. He has made a new invention.
 3. He was making a new invention.
 4. He had been making a new invention.

Question ID : 264330123912
Status : Answered
Chosen Option : 2

Q.18 Sentences of a paragraph are given below in jumbled order. Arrange the sentences in the correct order to form a meaningful and coherent paragraph.

- A. I was almost drowned a dozen times; was nearly boiled alive and just missed being cremated.
B. Now, my well-being is simply the result of a careful and measured mode of living and perhaps the most astonishing thing is that three times in my youth I was rendered by illness a hopeless physical wreck and given up by physicians.
C. More than this, through ignorance, and light-heartedness, I got into all sorts of difficulties, dangers and scrapes from which I extricated myself as by enchantment.
D. But as I recall these incidents to my mind I feel convinced that my preservation was not altogether accidental.

- Ans 1. CADB
 2. DCAB
 3. BCAD
 4. BADC

Question ID : 264330123966
Status : Answered
Chosen Option : 3

Q.19 Sentences of a paragraph are given below. While the first and the last sentences (S1 and S6) are in the correct order, the sentences in between are jumbled up. Arrange the sentences in the correct order to form a meaningful and coherent paragraph.

- S1. In Dr. Babasaheb Ambedkar
A. but also an elder statesman and national leader
B. we have not only a crusader against the caste system,
C. a valiant fighter for the cause of the downtrodden in India
D. whose contribution in the form of the Constitution of India
S6. will be cherished forever by posterity.

- Ans 1. CABD
 2. ABCD
 3. DABC
 4. BACD

Question ID : 26433063576
Status : Answered
Chosen Option : 4

Q.20 Select the most appropriate option to fill in the blank.
When the victim narrated his version of the incident, the jury was _____ .

- Ans
- 1. honestly satisfied
 - 2. excruciatingly satisfied
 - 3. completely satisfied
 - 4. perfectly satisfied

Question ID : 264330121886
Status : Answered
Chosen Option : 3

Q.21 Sentences of a paragraph are given in jumbled order. Arrange the sentences in the correct order to form a meaningful and coherent paragraph.

- A. Instead, they are constrictors, meaning they squeeze their prey to death before swallowing it whole.
- B. Agile on water but awkward on land, the green anaconda is one of the largest snakes in the world.
- C. Most people assume that anacondas are very poisonous, but they are actually non-venomous.
- D. At 29 feet long and 550 pounds, these snakes are huge!

- Ans
- 1. BDCA
 - 2. DABC
 - 3. BACD
 - 4. BCAD

Question ID : 26433070665
Status : Answered
Chosen Option : 1

Q.22 Select the most appropriate ANTONYM of the underlined word.

The audience sneered at the monologue uttered by the veteran actor.

- Ans
- 1. Waved
 - 2. Lauded
 - 3. Ascribed
 - 4. Unleashed

Question ID : 26433070531
Status : Answered
Chosen Option : 2

Q.23 Select the most appropriate meaning of the underlined word in a sentence.

Even though James won the election, he has not brought any of his campaign promises to fruition.

- Ans
- 1. disappointment
 - 2. accomplishment
 - 3. nourishment
 - 4. concealment

Question ID : 26433055999
Status : Answered
Chosen Option : 3

Q.24 Select the option that expresses the given sentence in passive voice.
The courier boy did not deliver the parcel.

- Ans**
- 1. The parcel did not deliver by the courier boy.
 - 2. The parcel had not been delivered by the courier boy.
 - 3. The parcel had not delivered by the courier boy.
 - 4. The parcel was not delivered by the courier boy.

Question ID : 26433058494
Status : Answered
Chosen Option : 4

Q.25 Identify the INCORRECTLY spelt word in the given sentence.
The board reviewing the courses offered by the affiliated college found that the quality of academic programs was usually good but somewhat irregular.

- Ans**
- 1. review
 - 2. irregular
 - 3. affiliated
 - 4. academic

Question ID : 26433061583
Status : Answered
Chosen Option : 3

Q.26 Select the most appropriate option to fill in the blank.

Nowadays, online shopping is easier _____ shopping in a market.

- Ans**
- 1. than
 - 2. then
 - 3. as
 - 4. like

Question ID : 26433061501
Status : Answered
Chosen Option : 1

Q.27 Select the option that expresses the given sentence in direct speech.

The mother said that the kids were playing.

- Ans**
- 1. The mother has said, "The kids were playing".
 - 2. The mother said, "The kids are playing".
 - 3. The mother said, "The kids have been playing".
 - 4. The mother told, "The kids had been playing".

Question ID : 26433063615
Status : Answered
Chosen Option : 2

Q.28 Select the option that can be used as a one-word substitute for the given group of words.

An arched structure in a garden having climbing plants

- Ans** 1. Pergola
 2. Path
 3. Shelter
 4. Shed

Question ID : 26433070721
Status : Answered
Chosen Option : 1

Q.29 Select the option that expresses the given sentence in active voice.

The story of his uncle's mysterious disappearance was first heard by Rajat in his childhood

- Ans** 1. Rajat first heard the story of his uncle's mysterious disappearance in his childhood.
 2. Rajat's first story that uncle heard in his childhood was about his mysterious disappearance.
 3. The story Rajat first heard in his childhood was about his uncle's mysterious disappearance.
 4. The story uncle heard first time was about Rajat's mysterious disappearance in his childhood.

Question ID : 26433055599
Status : Answered
Chosen Option : 1

Comprehension:

In the following passage, some words have been deleted. Read the passage carefully and select the most appropriate option to fill in each blank.

The Sun is the star at the center of (1) _____ Solar System. It is a nearly perfect ball of hot plasma. The Sun has inspired us since ancient times. It's central to mythology and religion in (2) _____ around the world. It keeps our planet warm enough for living things to grow. It gives us light so we can see. It is by far the most important (3) _____ of energy for life on Earth. It is about a hundred times as wide (4) _____ the Earth. If there were no sun, many things wouldn't occur like photosynthesis or the presence of oxygen, which would have caused no existence of life.

SubQuestion No : 30

Q.30 Select the most appropriate option to fill in blank number 1.

- Ans** 1. huge
 2. a
 3. the
 4. typical

Question ID : 264330128945
Status : Answered
Chosen Option : 3

Comprehension:

In the following passage, some words have been deleted. Read the passage carefully and select the most appropriate option to fill in each blank.

The Sun is the star at the center of (1) _____ Solar System. It is a nearly perfect ball of hot plasma. The Sun has inspired us since ancient times. It's central to mythology and religion in (2) _____ around the world. It keeps our planet warm enough for living things to grow. It gives us light so we can see. It is by far the most important (3) _____ of energy for life on Earth. It is about a hundred times as wide (4) _____ the Earth. If there were no sun, many things wouldn't occur like photosynthesis or the presence of oxygen, which would have caused no existence of life.

SubQuestion No : 31

Q.31 Select the most appropriate option to fill in blank number 2.

- Ans** 1. processes
 2. types
 3. cultures
 4. scenes

Question ID : 264330128946

Status : Answered

Chosen Option : 3

Comprehension:

In the following passage, some words have been deleted. Read the passage carefully and select the most appropriate option to fill in each blank.

The Sun is the star at the center of (1) _____ Solar System. It is a nearly perfect ball of hot plasma. The Sun has inspired us since ancient times. It's central to mythology and religion in (2) _____ around the world. It keeps our planet warm enough for living things to grow. It gives us light so we can see. It is by far the most important (3) _____ of energy for life on Earth. It is about a hundred times as wide (4) _____ the Earth. If there were no sun, many things wouldn't occur like photosynthesis or the presence of oxygen, which would have caused no existence of life.

SubQuestion No : 32

Q.32 Select the most appropriate option to fill in blank number 3.

- Ans** 1. control
 2. source
 3. gesture
 4. symbol

Question ID : 264330128947

Status : Answered

Chosen Option : 2

Comprehension:

In the following passage, some words have been deleted. Read the passage carefully and select the most appropriate option to fill in each blank.

The Sun is the star at the center of (1) _____ Solar System. It is a nearly perfect ball of hot plasma. The Sun has inspired us since ancient times. It's central to mythology and religion in (2) _____ around the world. It keeps our planet warm enough for living things to grow. It gives us light so we can see. It is by far the most important (3) _____ of energy for life on Earth. It is about a hundred times as wide (4) _____ the Earth. If there were no sun, many things wouldn't occur like photosynthesis or the presence of oxygen, which would have caused no existence of life.

SubQuestion No : 33

Q.33 Select the most appropriate option to fill in blank number 4.

- Ans** ✓ 1. as
✗ 2. about
✗ 3. like
✗ 4. than

Question ID : 264330128948

Status : Answered

Chosen Option : 1

Comprehension:

Read the given passage and answer the questions that follow.

As the Sun inches closer to its peak activity in its solar cycle, an explosion has been picked up behind the north-eastern limb of the star in our solar system. Solar observatories saw bits and pieces of the explosion, which remain obscured in view from Earth's orbit.

The explosion was spotted on 31 July at around 2309 UT and Earth-orbiting satellites registered a long-lasting C9.3-class solar flare. "The intensity is probably an underestimate because it was partially eclipsed by the edge of the sun. Nasa's Solar Dynamics Observatory (SDO) saw hot debris flying away from the blast site," space weather, which tracks the solar activity, reported.

While the explosion was powerful, experts have predicted that Earth is not in the line of fire from the Sun. Scientists are expected to get a view of the active region later this week as it comes to sight. Earth is not in the line of fire. The explosion is significant because it may herald an active region set to emerge over the sun's north-eastern limb later this week. A new sunspot group could bring an end to weeks of relative quiet," space weather said in its report.

SubQuestion No : 34

Q.34 Select the most appropriate synonym of the given word from the passage.

Spotted

- Ans** ✗ 1. Placed
✗ 2. Splotchy
✓ 3. Witnessed
✗ 4. Speckled

Question ID : 264330128911

Status : Answered

Chosen Option : 3

Comprehension:

Read the given passage and answer the questions that follow.

As the Sun inches closer to its peak activity in its solar cycle, an explosion has been picked up behind the north-eastern limb of the star in our solar system. Solar observatories saw bits and pieces of the explosion, which remain obscured in view from Earth's orbit.

The explosion was spotted on 31 July at around 2309 UT and Earth-orbiting satellites registered a long-lasting C9.3-class solar flare. "The intensity is probably an underestimate because it was partially eclipsed by the edge of the sun. Nasa's Solar Dynamics Observatory (SDO) saw hot debris flying away from the blast site," space weather, which tracks the solar activity, reported.

While the explosion was powerful, experts have predicted that Earth is not in the line of fire from the Sun. Scientists are expected to get a view of the active region later this week as it comes to sight. Earth is not in the line of fire. The explosion is significant because it may herald an active region set to emerge over the sun's north-eastern limb later this week. A new sunspot group could bring an end to weeks of relative quiet," space weather said in its report.

SubQuestion No : 35

Q.35 Select the most appropriate synonym of the given word from the passage.

Peak

- Ans** 1. Bottom
 2. Zenith
 3. Point
 4. Glance

Question ID : 264330128910

Status : Answered

Chosen Option : 2

Comprehension:

Read the given passage and answer the questions that follow.

As the Sun inches closer to its peak activity in its solar cycle, an explosion has been picked up behind the north-eastern limb of the star in our solar system. Solar observatories saw bits and pieces of the explosion, which remain obscured in view from Earth's orbit.

The explosion was spotted on 31 July at around 2309 UT and Earth-orbiting satellites registered a long-lasting C9.3-class solar flare. "The intensity is probably an underestimate because it was partially eclipsed by the edge of the sun. Nasa's Solar Dynamics Observatory (SDO) saw hot debris flying away from the blast site," space weather, which tracks the solar activity, reported.

While the explosion was powerful, experts have predicted that Earth is not in the line of fire from the Sun. Scientists are expected to get a view of the active region later this week as it comes to sight. Earth is not in the line of fire. The explosion is significant because it may herald an active region set to emerge over the sun's north-eastern limb later this week. A new sunspot group could bring an end to weeks of relative quiet," space weather said in its report.

SubQuestion No : 36

Q.36 Select the most appropriate synonym of the given word from the passage.

Debris

- Ans** 1. Specks
 2. Rays
 3. Liquid
 4. Detritus

Question ID : 264330128913

Status : Not Answered

Chosen Option : --

Comprehension:

Read the given passage and answer the questions that follow.

As the Sun inches closer to its peak activity in its solar cycle, an explosion has been picked up behind the north-eastern limb of the star in our solar system. Solar observatories saw bits and pieces of the explosion, which remain obscured in view from Earth's orbit.

The explosion was spotted on 31 July at around 2309 UT and Earth-orbiting satellites registered a long-lasting C9.3-class solar flare. "The intensity is probably an underestimate because it was partially eclipsed by the edge of the sun. Nasa's Solar Dynamics Observatory (SDO) saw hot debris flying away from the blast site," space weather, which tracks the solar activity, reported.

While the explosion was powerful, experts have predicted that Earth is not in the line of fire from the Sun. Scientists are expected to get a view of the active region later this week as it comes to sight. Earth is not in the line of fire. The explosion is significant because it may herald an active region set to emerge over the sun's north-eastern limb later this week. A new sunspot group could bring an end to weeks of relative quiet," space weather said in its report.

SubQuestion No : 37

Q.37 Select the most appropriate synonym of the given word from the passage.

Partially

- Ans** 1. Supportively
 2. Frankly
 3. Partly
 4. Completely

Question ID : 264330128912

Status : Answered

Chosen Option : 3

Adda247

Comprehension:

Read the following passage and answer the questions given after it.

Tens of thousands of people who lost their homes in a catastrophic earthquake huddled around campfires in the bitter cold and clamoured for food and water on Thursday, three days after the temblor hit Turkey and Syria and killed more than 19,300 on Monday, 6th February, 2023.

Emergency crews used pick axes, shovels and jackhammers to dig through twisted metal and concrete - and occasionally still pulled out survivors.

In the Turkish city of Antakya, dozens scrambled for aid in front of a truck distributing children's coats and other supplies. Many of those who lost their homes found shelter in tents, stadiums and other temporary accommodation, but others slept outdoors.

In Antakya, over 100 bodies were awaiting identification in a makeshift morgue outside a hospital.

Authorities called off search-and-rescue operations in the cities of Kilis and Sanliurfa, where destruction was not as severe as in other impacted regions.

The U.N. is authorised to deliver aid through only one border crossing, and road damage has prevented that thus far. U.N. Officials pleaded for humanitarian concerns to take precedence over wartime politics.

The scale of loss and suffering remained massive. Turkish authorities said on Thursday that the death toll had risen to more than 16,100 in the country, with more than 64,000 injured.

In Syria, which includes government-held and rebel-held areas, more than 3,100 have been reported dead and more than 5,000 injured.

Rescue teams urged quiet in the hope of hearing stifled pleas for help, and the Syrian paramedic group known as the White Helmets noted that every second could mean saving a life. But more and more often, the teams pulled out dead bodies.

It was not clear how many people were still unaccounted for in both countries.

Turkey's disaster-management agency said more than 110,000 rescue personnel were now taking part in the effort and more than 5,500 vehicles, including tractors, cranes, bulldozers and excavators had been shipped.

The Foreign Ministry said 95 countries have offered help. More than half of that number have sent a total of nearly 6,500 rescuers. Another 2,400 more are still expected to arrive.

International aid for Syria was far more sparse.

Efforts there have been hampered by the civil war and the isolation of the rebel-held region along the border that is surrounded by Russia-backed government forces.

SubQuestion No : 38

Q.38 Match the words with their meaning.

Words meanings

- a. clamoured 1. checked**
- b. scrambled 2. screamed**
- c. hampered 3. jostled**

Ans ✓ 1. a-2, b-3, c-1

✗ 2. a -3, b -1, c-2

✗ 3. a-1, b- 3, c-2

✗ 4. a-2, b-1, c-3

Question ID : 264330128803

Status : Answered

Chosen Option : 4

Comprehension:

Read the following passage and answer the questions given after it.

Tens of thousands of people who lost their homes in a catastrophic earthquake huddled around campfires in the bitter cold and clamoured for food and water on Thursday, three days after the temblor hit Turkey and Syria and killed more than 19,300 on Monday, 6th February, 2023.

Emergency crews used pick axes, shovels and jackhammers to dig through twisted metal and concrete - and occasionally still pulled out survivors.

In the Turkish city of Antakya, dozens scrambled for aid in front of a truck distributing children's coats and other supplies. Many of those who lost their homes found shelter in tents, stadiums and other temporary accommodation, but others slept outdoors.

In Antakya, over 100 bodies were awaiting identification in a makeshift morgue outside a hospital.

Authorities called off search-and-rescue operations in the cities of Kilis and Sanliurfa, where destruction was not as severe as in other impacted regions.

The U.N. is authorised to deliver aid through only one border crossing, and road damage has prevented that thus far. U.N. Officials pleaded for humanitarian concerns to take precedence over wartime politics.

The scale of loss and suffering remained massive. Turkish authorities said on Thursday that the death toll had risen to more than 16,100 in the country, with more than 64,000 injured.

In Syria, which includes government-held and rebel-held areas, more than 3,100 have been reported dead and more than 5,000 injured.

Rescue teams urged quiet in the hope of hearing stifled pleas for help, and the Syrian paramedic group known as the White Helmets noted that every second could mean saving a life. But more and more often, the teams pulled out dead bodies.

It was not clear how many people were still unaccounted for in both countries.

Turkey's disaster-management agency said more than 110,000 rescue personnel were now taking part in the effort and more than 5,500 vehicles, including tractors, cranes, bulldozers and excavators had been shipped.

The Foreign Ministry said 95 countries have offered help. More than half of that number have sent a total of nearly 6,500 rescuers. Another 2,400 more are still expected to arrive.

International aid for Syria was far more sparse.

Efforts there have been hampered by the civil war and the isolation of the rebel-held region along the border that is surrounded by Russia-backed government forces.

SubQuestion No : 39

Q.39 How many foreign rescue workers are engaged in the rescue work?

- Ans**
- 1. 6500 rescue workers
 - 2. 2400 rescue workers
 - 3. 5000 rescue workers
 - 4. 110,000 rescue workers

Question ID : 264330128801

Status : Answered

Chosen Option : 1

Comprehension:

Read the following passage and answer the questions given after it.

Tens of thousands of people who lost their homes in a catastrophic earthquake huddled around campfires in the bitter cold and clamoured for food and water on Thursday, three days after the temblor hit Turkey and Syria and killed more than 19,300 on Monday, 6th February, 2023.

Emergency crews used pick axes, shovels and jackhammers to dig through twisted metal and concrete - and occasionally still pulled out survivors.

In the Turkish city of Antakya, dozens scrambled for aid in front of a truck distributing children's coats and other supplies. Many of those who lost their homes found shelter in tents, stadiums and other temporary accommodation, but others slept outdoors.

In Antakya, over 100 bodies were awaiting identification in a makeshift morgue outside a hospital.

Authorities called off search-and-rescue operations in the cities of Kilis and Sanliurfa, where destruction was not as severe as in other impacted regions.

The U.N. is authorised to deliver aid through only one border crossing, and road damage has prevented that thus far. U.N. Officials pleaded for humanitarian concerns to take precedence over wartime politics.

The scale of loss and suffering remained massive. Turkish authorities said on Thursday that the death toll had risen to more than 16,100 in the country, with more than 64,000 injured.

In Syria, which includes government-held and rebel-held areas, more than 3,100 have been reported dead and more than 5,000 injured.

Rescue teams urged quiet in the hope of hearing stifled pleas for help, and the Syrian paramedic group known as the White Helmets noted that every second could mean saving a life. But more and more often, the teams pulled out dead bodies.

It was not clear how many people were still unaccounted for in both countries.

Turkey's disaster-management agency said more than 110,000 rescue personnel were now taking part in the effort and more than 5,500 vehicles, including tractors, cranes, bulldozers and excavators had been shipped.

The Foreign Ministry said 95 countries have offered help. More than half of that number have sent a total of nearly 6,500 rescuers. Another 2,400 more are still expected to arrive.

International aid for Syria was far more sparse.

Efforts there have been hampered by the civil war and the isolation of the rebel-held region along the border that is surrounded by Russia-backed government forces.

SubQuestion No : 40

Q.40 The passage highlights all the following except

- Ans**
- 1. Syria's rebel-held areas and the Civil war going on there
 - 2. the rescue work being carried out in Turkey and Syria
 - 3. the foreign aid being offered to Turkey and Syria
 - 4. the suffering of people in the earthquake hit areas of Turkey and Syria

Question ID : 264330128800

Status : Answered

Chosen Option : 2

Comprehension:

Read the following passage and answer the questions given after it.

Tens of thousands of people who lost their homes in a catastrophic earthquake huddled around campfires in the bitter cold and clamoured for food and water on Thursday, three days after the temblor hit Turkey and Syria and killed more than 19,300 on Monday, 6th February, 2023.

Emergency crews used pick axes, shovels and jackhammers to dig through twisted metal and concrete - and occasionally still pulled out survivors.

In the Turkish city of Antakya, dozens scrambled for aid in front of a truck distributing children's coats and other supplies. Many of those who lost their homes found shelter in tents, stadiums and other temporary accommodation, but others slept outdoors.

In Antakya, over 100 bodies were awaiting identification in a makeshift morgue outside a hospital.

Authorities called off search-and-rescue operations in the cities of Kilis and Sanliurfa, where destruction was not as severe as in other impacted regions.

The U.N. is authorised to deliver aid through only one border crossing, and road damage has prevented that thus far. U.N. Officials pleaded for humanitarian concerns to take precedence over wartime politics.

The scale of loss and suffering remained massive. Turkish authorities said on Thursday that the death toll had risen to more than 16,100 in the country, with more than 64,000 injured.

In Syria, which includes government-held and rebel-held areas, more than 3,100 have been reported dead and more than 5,000 injured.

Rescue teams urged quiet in the hope of hearing stifled pleas for help, and the Syrian paramedic group known as the White Helmets noted that every second could mean saving a life. But more and more often, the teams pulled out dead bodies.

It was not clear how many people were still unaccounted for in both countries.

Turkey's disaster-management agency said more than 110,000 rescue personnel were now taking part in the effort and more than 5,500 vehicles, including tractors, cranes, bulldozers and excavators had been shipped.

The Foreign Ministry said 95 countries have offered help. More than half of that number have sent a total of nearly 6,500 rescuers. Another 2,400 more are still expected to arrive.

International aid for Syria was far more sparse.

Efforts there have been hampered by the civil war and the isolation of the rebel-held region along the border that is surrounded by Russia-backed government forces.

SubQuestion No : 41

Q.41 Why is the International aid much lesser in Syria than in Turkey?

- Ans**
- 1. Because the UN is allowed only one border crossing and Syria is not allowing that.
 - 2. Because Syria is a war –torn country and there are areas under rebels.
 - 3. Because the destruction was not as severe in Syria as in Turkey.
 - 4. Because the roads have been damaged there

Question ID : 264330128802

Status : Answered

Chosen Option : 2

Comprehension:

Read the following passage and answer the questions given after it.

Notwithstanding logistical challenges posed by COVID19 pandemic, India continues to expand its rice exports footprint in the African, Asian and European Union markets, thus having the largest share in global rice trade. The robust global demand also helped India's growth in rice exports.

In 2020-21, India's rice exports (Basmati and Non-Basmati) rose by a huge 87 per cent to 17.72 Million Tonne (MT) from 9.49 MT achieved in 2019-20.

In terms of value realisation, India's rice exports rose by 38 per cent to USD 8815 million in 2020-21 from USD 6397 million reported in 2019-20. In terms of Rupees, India's rice export grew by 44 per cent to Rs 65298 crore in 2020-21 from Rs 45379 crore in the previous year. In the first seven months of the current financial year (2021-22), India's rice exports rose by more than 33 per cent to 11.79 MT from 8.91 MT achieved during April-October, 2020-21. It is anticipated that India's rice exports in 2021-22 would likely surpass the record feet of 17.72 MT achieved in 2020-21.

In 2020-21, India shipped non-basmati rice to nine countries - Timor-Leste, Puerto Rico, Brazil, Papua New Guinea, Zimbabwe, Burundi, Eswatini, Myanmar and Nicaragua, where exports were carried out for the first time or earlier the shipment was smaller in volume.

India's Non-Basmati rice exports was valued at USD 4796 million (Rs 35448crore) in 2020-21, with Basmati Rice exports a close second at USD 4018 million (Rs 29,849 crore).

In terms of volume of Basmati rice exports in 2020-21, top ten countries – Saudi Arabia, Iran, Iraq, Yemen, United Arab Emirates, United States of America, Kuwait, United Kingdom, Qatar and Oman have a share of close to 80 per cent in total shipments of aromatic long grained rice from India.

Top ten countries – Nepal, Benin, Bangladesh, Senegal, Togo, Cote D Ivoire, Guinea, Malaysia, Iraq, United Arab Emirates – have a share of 57 per cent in India's total exports of non-Basmati rice in 2020-21 in terms of volume.

SubQuestion No : 42

Q.42 Which of the following countries imports Basmati rice from India?

- Ans**
- 1. Nepal
 - 2. Malaysia
 - 3. Kuwait
 - 4. Bangladesh

Question ID : **264330128817**

Status : **Answered**

Chosen Option : **3**

Adda247

Comprehension:

Read the following passage and answer the questions given after it.

Notwithstanding logistical challenges posed by COVID19 pandemic, India continues to expand its rice exports footprint in the African, Asian and European Union markets, thus having the largest share in global rice trade. The robust global demand also helped India's growth in rice exports.

In 2020-21, India's rice exports (Basmati and Non-Basmati) rose by a huge 87 per cent to 17.72 Million Tonne (MT) from 9.49 MT achieved in 2019-20.

In terms of value realisation, India's rice exports rose by 38 per cent to USD 8815 million in 2020-21 from USD 6397 million reported in 2019-20. In terms of Rupees, India's rice export grew by 44 per cent to Rs 65298 crore in 2020-21 from Rs 45379 crore in the previous year. In the first seven months of the current financial year (2021-22), India's rice exports rose by more than 33 per cent to 11.79 MT from 8.91 MT achieved during April-October, 2020-21. It is anticipated that India's rice exports in 2021-22 would likely surpass the record feet of 17.72 MT achieved in 2020-21.

In 2020-21, India shipped non-basmati rice to nine countries - Timor-Leste, Puerto Rico, Brazil, Papua New Guinea, Zimbabwe, Burundi, Eswatini, Myanmar and Nicaragua, where exports were carried out for the first time or earlier the shipment was smaller in volume.

India's Non-Basmati rice exports was valued at USD 4796 million (Rs 35448crore) in 2020-21, with Basmati Rice exports a close second at USD 4018 million (Rs 29,849 crore).

In terms of volume of Basmati rice exports in 2020-21, top ten countries – Saudi Arabia, Iran, Iraq, Yemen, United Arab Emirates, United States of America, Kuwait, United Kingdom, Qatar and Oman have a share of close to 80 per cent in total shipments of aromatic long grained rice from India.

Top ten countries – Nepal, Benin, Bangladesh, Senegal, Togo, Cote D Ivoire, Guinea, Malaysia, Iraq, United Arab Emirates – have a share of 57 per cent in India's total exports of non-Basmati rice in 2020-21 in terms of volume.

SubQuestion No : 43

Q.43 Which of the following countries imported rice from India for the first time?

- Ans**
- 1. Iraq
 - 2. Brazil
 - 3. United Arab Emirates
 - 4. Bangladesh

Question ID : 264330128816

Status : Answered

Chosen Option : 2

Adda247

Comprehension:

Read the following passage and answer the questions given after it.

Notwithstanding logistical challenges posed by COVID19 pandemic, India continues to expand its rice exports footprint in the African, Asian and European Union markets, thus having the largest share in global rice trade. The robust global demand also helped India's growth in rice exports.

In 2020-21, India's rice exports (Basmati and Non-Basmati) rose by a huge 87 per cent to 17.72 Million Tonne (MT) from 9.49 MT achieved in 2019-20.

In terms of value realisation, India's rice exports rose by 38 per cent to USD 8815 million in 2020-21 from USD 6397 million reported in 2019-20. In terms of Rupees, India's rice export grew by 44 per cent to Rs 65298 crore in 2020-21 from Rs 45379 crore in the previous year. In the first seven months of the current financial year (2021-22), India's rice exports rose by more than 33 per cent to 11.79 MT from 8.91 MT achieved during April-October, 2020-21. It is anticipated that India's rice exports in 2021-22 would likely surpass the record feet of 17.72 MT achieved in 2020-21.

In 2020-21, India shipped non-basmati rice to nine countries - Timor-Leste, Puerto Rico, Brazil, Papua New Guinea, Zimbabwe, Burundi, Eswatini, Myanmar and Nicaragua, where exports were carried out for the first time or earlier the shipment was smaller in volume.

India's Non-Basmati rice exports was valued at USD 4796 million (Rs 35448crore) in 2020-21, with Basmati Rice exports a close second at USD 4018 million (Rs 29,849 crore).

In terms of volume of Basmati rice exports in 2020-21, top ten countries – Saudi Arabia, Iran, Iraq, Yemen, United Arab Emirates, United States of America, Kuwait, United Kingdom, Qatar and Oman have a share of close to 80 per cent in total shipments of aromatic long grained rice from India.

Top ten countries – Nepal, Benin, Bangladesh, Senegal, Togo, Cote D Ivoire, Guinea, Malaysia, Iraq, United Arab Emirates – have a share of 57 per cent in India's total exports of non-Basmati rice in 2020-21 in terms of volume.

SubQuestion No : 44

Q.44 What is the estimate of rice export in the year 2021-22?

- Ans**
- 1. It may fall below the 17.72 MT rice export achieved in 2020-21.
 - 2. It will exceed the 17.72 MT rice export achieved in 2020-21.
 - 3. It will remain the same as the 17.72 MT rice export achieved in 2020-21.
 - 4. It will not pass beyond the 17.72 MT rice export achieved in 2020-21.

Question ID : 264330128818

Status : Answered

Chosen Option : 2

Adda247

Comprehension:

Read the following passage and answer the questions given after it.

Notwithstanding logistical challenges posed by COVID19 pandemic, India continues to expand its rice exports footprint in the African, Asian and European Union markets, thus having the largest share in global rice trade. The robust global demand also helped India's growth in rice exports.

In 2020-21, India's rice exports (Basmati and Non-Basmati) rose by a huge 87 per cent to 17.72 Million Tonne (MT) from 9.49 MT achieved in 2019-20.

In terms of value realisation, India's rice exports rose by 38 per cent to USD 8815 million in 2020-21 from USD 6397 million reported in 2019-20. In terms of Rupees, India's rice export grew by 44 per cent to Rs 65298 crore in 2020-21 from Rs 45379 crore in the previous year. In the first seven months of the current financial year (2021-22), India's rice exports rose by more than 33 per cent to 11.79 MT from 8.91 MT achieved during April-October, 2020-21. It is anticipated that India's rice exports in 2021-22 would likely surpass the record feet of 17.72 MT achieved in 2020-21.

In 2020-21, India shipped non-basmati rice to nine countries - Timor-Leste, Puerto Rico, Brazil, Papua New Guinea, Zimbabwe, Burundi, Eswatini, Myanmar and Nicaragua, where exports were carried out for the first time or earlier the shipment was smaller in volume.

India's Non-Basmati rice exports was valued at USD 4796 million (Rs 35448crore) in 2020-21, with Basmati Rice exports a close second at USD 4018 million (Rs 29,849 crore).

In terms of volume of Basmati rice exports in 2020-21, top ten countries – Saudi Arabia, Iran, Iraq, Yemen, United Arab Emirates, United States of America, Kuwait, United Kingdom, Qatar and Oman have a share of close to 80 per cent in total shipments of aromatic long grained rice from India.

Top ten countries – Nepal, Benin, Bangladesh, Senegal, Togo, Cote D Ivoire, Guinea, Malaysia, Iraq, United Arab Emirates – have a share of 57 per cent in India's total exports of non-Basmati rice in 2020-21 in terms of volume.

SubQuestion No : 45

Q.45 Which of the following questions cannot be answered on the basis of the above passage?

- Ans**
- 1. How much rice (Basmati and Non Basmati) was exported by India in 2020-21?
 - 2. How much Basmati rice was exported by India in 2020-21?
 - 3. Which top 10 countries buy Non -Basmati rice from India?
 - 4. What was the value of Basmati rice export from India?

Question ID : 264330128815

Status : Answered

Chosen Option : 2

Section : General Awareness

Q.1 आप उन दवाओं को क्या कहते हैं जो ग्राही की सतह पर आबंधित होकर इसके प्राकृतिक कार्य में विरोध उत्पन्न करती हैं?

- Ans**
- 1. क्रिया प्रेरक
 - 2. प्रति अवसादक
 - 3. अवसादक
 - 4. विरोधी

Question ID : 264330123846

Status : Answered

Chosen Option : 2

Q.2 सही कथन की पहचान कीजिए।

- Ans 1. जूल शक्ति का मात्रक है।
 2. न्यूटन शक्ति का मात्रक है।
 3. न्यूटन बल का मात्रक है।
 4. जूल बल का मात्रक है।

Question ID : 264330109878
Status : Answered
Chosen Option : 3

Q.3 भारत के उच्चतम न्यायालय ने फरवरी 2020 में दिल्ली दंगों से संबंधित जांच के लिए दिल्ली विधान सभा की शांति और सद्भाव समिति द्वारा जारी समन को रद्द करने के लिए _____ की याचिका को खारिज कर दिया।

- Ans 1. सैपचैट
 2. इंस्टाग्राम
 3. ट्विटर
 4. फेसबुक

Question ID : 264330123898
Status : Not Answered
Chosen Option : --

Q.4 कॉलम सुमेलित करें।

पोषक तत्व

उदाहरण

a. प्रोटीन

i. कैल्शियम, फास्फोरस

b. कार्बोहाइड्रेट

ii. कोलेस्ट्रॉल

c. वसा

iii. शर्करा

d. खनिज पदार्थ

iv. मायोसिन

- Ans 1. a-iv, b-iii, c-ii, d-i
 2. a-iii, b-iv, c-ii, d-i
 3. a-i, b-ii, c-iii, d-iv
 4. a-i, b-iii, c-ii, d-iv

Question ID : 264330121163
Status : Answered
Chosen Option : 1

Q.5 भारत में पहली बार 'उक्त में से कोई नहीं' (NOTA) कब लागू किया गया था?

- Ans 1. 2004
 2. 2010
 3. 2013
 4. 2015

Question ID : 26433069894
Status : Answered
Chosen Option : 2

- Q.6 2022 में प्रस्तावित, प्रारूप सूचना प्रौद्योगिकी (मध्यवर्ती दिशानिर्देश और डिजिटल मीडिया आचार संहिता) नियम, 2021 के संबंध में निम्नलिखित में से कौन-सा/से कथन सही है/हैं?
- A. ऑनलाइन गेम्स को एक स्व-नियामक निकाय के साथ पंजीकृत करना होगा, और केवल ऐसे निकाय द्वारा स्वीकृत गेम्स को ही भारत में कानूनी रूप से संचालित करने की अनुमति होगी।
- B. प्रस्तावित नियमानुसार, ऑनलाइन गेमिंग कंपनियों को गेम्स के परिणाम पर सट्टेबाजी करने की अनुमति नहीं दी जाएगी।
- C. नियमों के अनुसार, एक से अधिक स्व-नियामक निकाय हो सकते हैं।

- Ans 1. A, B और C
2. केवल A और C
3. केवल B और C
4. केवल A और B

Question ID : 264330122808
Status : Not Answered
Chosen Option : --

- Q.7 ठंड के मौसम में, उत्तर भारत में अत्यधिक ठंड के मुख्य कारणों के संबंध में निम्नलिखित कथनों पर विचार करें और पहचानें कि कौन से कथन सही हैं।
1. पंजाब, हरियाणा और राजस्थान जैसे राज्य समुद्र के समकारी प्रभाव से दूर होने के कारण महाद्वीपीय जलवायु का अनुभव करते हैं।
2. निकटवर्ती हिमालय की श्रेणियों में हिमपात के कारण शीत लहर की स्थिति उत्पन्न हो जाती है।
3. फरवरी के आसपास, कैस्पियन सागर और तुर्कमेनिस्तान से आने वाली ठंडी पवनें भारत के उत्तर-पश्चिमी भागों में पाला और कोहरे के साथ शीत लहर लाती हैं।

- Ans 1. केवल 1 और 3
2. केवल 1 और 2
3. 1, 2 और 3
4. केवल 2 और 3

Question ID : 264330121531
Status : Not Answered
Chosen Option : --

- Q.8 सरकार का हस्तक्षेप, चाहे वह मांग का विस्तार करने के लिए हो अथवा इसे कम करने के लिए, _____ कहलाता है।

- Ans 1. पुनः आबंटन कार्य
2. लेन-देन कार्य
3. अनिश्चितता कार्य
4. स्थिरीकरण कार्य

Question ID : 264330123882
Status : Answered
Chosen Option : 4

- Q.9 पंजाब में वर्षा का कारण बनने वाले भूमध्य सागर से उत्पन्न होने वाले शीतोष्ण कटिबंधीय चक्रवातों से किन फसलों को लाभ होता है?

- Ans 1. जायद फसल
2. खरीफ की फसल
3. नकदी फसल
4. रबी की फसल

Question ID : 264330123843
Status : Answered
Chosen Option : 4

Q.10 विश्व स्वास्थ्य संगठन (WHO) का संविधान कब लागू हुआ था - यह वह तिथि है जिसे अब हम प्रत्येक वर्ष विश्व स्वास्थ्य दिवस के रूप में मनाते हैं?

- Ans 1. 7 अप्रैल 1948
 2. 5 अप्रैल 1948
 3. 8 अप्रैल 1948
 4. 6 अप्रैल 1948

Question ID : 264330123819
Status : Answered
Chosen Option : 1

Q.11 मान लीजिए कि अमेरिकी डॉलर और भारतीय रुपये के बीच विनिमय दर \$1 = ₹55 है। अब यदि यह विनिमय दर बढ़कर \$1 = ₹60 हो जाती है, तो इस स्थिति में अमेरिकी डॉलर की तुलना में भारतीय रुपये का _____ हुआ है।

- Ans 1. अवमूल्यन
 2. विमुद्रीकरण
 3. अधिमूल्यन
 4. मूल्यवर्धन

Question ID : 26433059307
Status : Answered
Chosen Option : 3

Q.12 103वें संविधान संशोधन अधिनियम की वैधता पर उच्चतम न्यायालय के फैसले के बारे में निम्नलिखित में से कौन-सा कथन सही है?

- A. इस केस के लिए, भारत के उच्चतम न्यायालय की संवैधानिक पीठ में 5 न्यायाधीश शामिल थे।
B. संवैधानिक बेंच ने 3-2 बहुमत के साथ ईडब्ल्यूएस (EWS) आरक्षण के 10% को बरकरार रखा है।
C. उच्चतम न्यायालय के फैसले के अनुसार, 103वां संविधान संशोधन वैध है, हालांकि यह भारतीय संविधान के मूल ढांचे का उल्लंघन कर रहा है।

- Ans 1. केवल B और C
 2. A, B और C
 3. केवल A और C
 4. केवल A और B

Question ID : 264330121542
Status : Answered
Chosen Option : 4

Q.13 1911 में अल्फा क्षय के अर्द्धआयुकाल और उत्सर्जित अल्फा कणों की ऊर्जा के बीच एक प्रयोगसिद्ध संबंध किसने खोजा था?

- Ans 1. चैडविक और लॉरेंस (Chadwick and Lawrence)
 2. सोडी और एस्टन (Soddy and Aston)
 3. फर्मी और मीटनेर (Fermi and Meitner)
 4. गीगर और नट्टल (Geiger and Nuttall)

Question ID : 264330123835
Status : Not Answered
Chosen Option : --

Q.14 बलबन की उपाधि किसने धारण की थी?

- Ans
- 1. अयाज खान
 - 2. फरीद खान
 - 3. उलुग खान
 - 4. कबीर खान

Question ID : 264330109009
Status : Answered
Chosen Option : 3

Q.15 निम्नलिखित में से किस अनुच्छेद में पूरे भारत में एक समान सिविल संहिता का उल्लेख है?

- Ans
- 1. अनुच्छेद 40
 - 2. अनुच्छेद 50
 - 3. अनुच्छेद 39
 - 4. अनुच्छेद 44

Question ID : 264330110112
Status : Answered
Chosen Option : 4

Q.16 निम्नलिखित में से कौन सा/से विकल्प संयुक्त राष्ट्र के सतत विकास लक्ष्यों में से एक है/हैं?

- (A) शून्य भुखमरी
- (B) जलवायु कार्रवाई (Climate Action)
- (C) जल के नीचे जीवन (Life Below Water)
- (D) गुणवत्तापरक शिक्षा

- Ans
- 1. A, B, C और D
 - 2. A, C और D
 - 3. B और C
 - 4. A और B

Question ID : 264330121482
Status : Answered
Chosen Option : 2

Q.17 वर्ष 2011 की जनगणना के अनुसार भारत की जनसंख्या _____ है।

- Ans
- 1. 1.5 बिलियन
 - 2. 1.4 बिलियन
 - 3. 1.11 बिलियन
 - 4. 1.21 बिलियन

Question ID : 264330109499
Status : Answered
Chosen Option : 4

Q.18 भरत जन के नाम पर इंडिया का नाम 'भारत' रखा गया। निम्नलिखित में से किस वेद में इस जन का सर्वप्रथम उल्लेख मिलता है?

- Ans
- 1. यजुर्वेद
 - 2. ऋग्वेद
 - 3. अथर्ववेद
 - 4. सामवेद

Question ID : 264330123892
Status : Answered
Chosen Option : 2

Q.19 स्तंभों का मिलान करें।

काट एवं दाह कृषि	संबद्ध राज्य
(A) दहिया	(I) झारखंड
(B) कुरुवा	(II) ओडिशा
(C) बरीगाँ	(III) आंध्र प्रदेश
(D) पेंडा	(IV) मध्य प्रदेश

- Ans
- 1. A-III, B-I, C-II, D-IV
 - 2. A-IV, B-II, C-I, D-III
 - 3. A-IV, B-III, C-I, D-II
 - 4. A-IV, B-I, C-II, D-III

Question ID : 264330121512
Status : Not Answered
Chosen Option : --

Q.20 पूर्वी गोदावरी क्षेत्र में कोया विद्रोह किस वर्ष हुआ था?

- Ans
- 1. 1882-1883
 - 2. 1874-1875
 - 3. 1887-1888
 - 4. 1879-1880

Question ID : 264330123888
Status : Not Answered
Chosen Option : --

Q.21

स्तंभों का मिलान कीजिए।

स्तंभ-A

स्तंभ-B

i. विद्युत धारा

a. हेनरी

ii. विभवांतर

b. फ़ैरड

iii. धारिता

c. वोल्ट

iv. प्रेरकत्व

d. ऐम्पियर

Ans 1. i-a, ii-b, iii-c, iv-d

2. i-a, ii-c, iii-b, iv-d

3. i-d, ii-c, iii-b, iv-a

4. i-b, ii-a, iii-c, iv-d

Question ID : 264330109881

Status : Answered

Chosen Option : 3

Q.22 बीमारी के दौरान पोषण देखभाल, कार्यकलापों का एक संगठित समूह है, जिसमें निम्नलिखित में से किसके अलावा अन्य सभी शामिल हैं?

Ans 1. पोषण संबंधी समस्याओं का निदान

2. पोषण संबंधी आवश्यकताओं को पूरा करने के लिए पोषण हस्तक्षेप की योजना बनाना और प्राथमिकता देना

3. पोषण की स्थिति का आकलन

4. मनोवैज्ञानिक तनाव का आकलन

Question ID : 26433055780

Status : Answered

Chosen Option : 4

Q.23 भारत सरकार की नई एकीकृत खाद्य सुरक्षा योजना के संबंध में निम्नलिखित में से कौन-सा/से कथन सही है/हैं?

A. यह नई एकीकृत खाद्य सुरक्षा योजना 1 जनवरी 2023 से शुरू की गई है।

B. भारत सरकार ने राष्ट्रीय खाद्य सुरक्षा अधिनियम के तहत 80 करोड़ से अधिक लाभार्थियों को खाद्यान्न आपूर्ति करने का लक्ष्य रखा।

C. पहली बार इस खाद्यान्न आपूर्ति कार्यक्रम को प्रभावी क्रियान्वयन के लिए सामाजिक न्याय मंत्रालय के अधीन लाया गया।

Ans 1. केवल A और C

2. केवल A और B

3. A, B और C

4. केवल B और C

Question ID : 264330122936

Status : Not Answered

Chosen Option : --

Q.24 1845 में किस जर्मन रसायनज्ञ ने दो कार्बन परमाणु वाले एक प्राकृतिक उत्पाद 'एसिटिक अम्ल' के संश्लेषण के लिए एक विधि प्रकाशित की?

- Ans
- 1. फ्रेडरिक वोहलर
 - 2. मार्सेलिन बर्थेलोट
 - 3. जोसेफ गे-लुसाक
 - 4. हरमन कोल्बे

Question ID : 26433055758
Status : Answered
Chosen Option : 1

Q.25 भारत में, राज्य के महाधिवक्ता की नियुक्ति कौन करता है?

- Ans
- 1. राज्य का राज्यपाल
 - 2. भारत का प्रधान मंत्री
 - 3. भारत का राष्ट्रपति
 - 4. राज्य का मुख्यमंत्री

Question ID : 264330113409
Status : Answered
Chosen Option : 1

Section : Computer Knowledge Module

Q.1 अपने लॉग-इन नाम, पासवर्ड और अन्य संवेदनशील जानकारी को प्राप्त करने के लिए आपके पीसी पर आपके द्वारा टाइप की जाने वाली हर चीज को _____ रिकॉर्ड करता है।

- Ans
- 1. विषाणु
 - 2. कीलॉगर्स
 - 3. रैंसमवेयर
 - 4. कीडे

Question ID : 264330128768
Status : Answered
Chosen Option : 2

Q.2 _____ एक्टिव मैमोरी का एड्रेस रखता है।

- Ans
- 1. मेमरी एड्रेस रजिस्टर
 - 2. स्टैक सूचक
 - 3. प्रोग्राम काउंटर
 - 4. निर्देश रजिस्टर

Question ID : 264330128745
Status : Answered
Chosen Option : 1

Q.3 Which among the following statements is incorrect for input devices?

- Ans
- 1. Input devices helps computer in receiving data.
 - 2. Input devices are also called as peripheral device.
 - 3. Optical Mark Reader is an input device.
 - 4. Input devices accepts user data.

Question ID : 264330128704
Status : Answered
Chosen Option : 2

Q.4 Which one of the following folders is used to store deleted emails?

- Ans
- 1. Drafts
 - 2. Spam
 - 3. Inbox
 - 4. Trash

Question ID : 264330128736
Status : Answered
Chosen Option : 4

Q.5 Which among the following is not a magnetic storage?

- Ans
- 1. Winchester disk
 - 2. Floppy Drive
 - 3. Magnetic Tape
 - 4. Memory Card

Question ID : 264330128741
Status : Answered
Chosen Option : 4

Q.6 _____ उपलब्ध या उपभोग की गई सूचना क्षमता की बिट-दर है जो आमतौर पर प्रति सेकंड बिट्स के मीट्रिक गुणकों में व्यक्त की जाती है।

- Ans
- 1. बैंडविड्थ
 - 2. आवृत्ति
 - 3. गति
 - 4. प्रोटोकॉल

Question ID : 264330128732
Status : Answered
Chosen Option : 1

Q.7 एमएस-वर्ड 2010 में पैराग्राफ की लाइन स्पेसिंग (line spacing) के संबंध में निम्नलिखित कथनों पर विचार कीजिए।

P: लाइन स्पेसिंग (line spacing), किसी पैराग्राफ में टेक्स्ट की लाइनों के बीच लंबवत स्पेस का परिमाण निर्धारित करती है।

Q: लाइन स्पेसिंग (line spacing), किसी पैराग्राफ में टेक्स्ट की लाइनों के बीच विकर्णवत स्पेस का परिमाण निर्धारित करती है

निम्नलिखित में से कौन सा/से कथन सही है/हैं?

- Ans
- 1. न तो P और न ही Q
 - 2. केवल P
 - 3. P और Q दोनों
 - 4. केवल Q

Question ID : 264330128715

Status : Answered

Chosen Option : 3

Q.8 _____ एक नेटवर्किंग डिवाइस है जो कई कंप्यूटरों या संचार उपकरणों को जोड़ने के दौरान नेटवर्क ट्रैफिक को फिल्टर करता है।

- Ans
- 1. राउटर
 - 2. गेटवे
 - 3. स्विच
 - 4. रिपीटर

Question ID : 264330128747

Status : Answered

Chosen Option : 4

Q.9 निम्नलिखित में से कौन सा कथन गलत है?

- Ans
- 1. एक चुंबकीय टेप में ऊर्ध्वाधर स्तंभ होते हैं जिन्हें फ्रेम कहा जाता है।
 - 2. चुंबकीय टेप में क्षैतिज पंक्तियाँ होती हैं जिन्हें चैनल या ट्रैक कहा जाता है।
 - 3. मैग्नेटिक टेप ड्राइवर डेटा के भंडारण के लिए उपयुक्त नहीं होते हैं जिन्हें रैंडमली एक्सेस करने की आवश्यकता होती है।
 - 4. चुंबकीय टेप में कोई एड्रेसिंग नहीं होती है।

Question ID : 264330128742

Status : Not Answered

Chosen Option : --

Q.10 निम्नलिखित में से किस प्रकार के कंप्यूटर को नोटबुक के नाम से भी जाना जाता है?

- Ans
- ✓ 1. लैपटॉप कंप्यूटर
 - ✗ 2. वर्क स्टेशन
 - ✗ 3. माइक्रो कंप्यूटर
 - ✗ 4. मल्टी कोर

Question ID : 264330128699
Status : Answered
Chosen Option : 3

Q.11 निम्नलिखित में से किसका उदाहरण क्रिप्टोलॉकर है?

- Ans
- ✓ 1. रैंसमवेयर
 - ✗ 2. स्पाइवेयर
 - ✗ 3. कीडे
 - ✗ 4. एडवेयर

Question ID : 264330128694
Status : Answered
Chosen Option : 1

Q.12 निम्नलिखित में से कौन-सा, लिब्रे ऑफिस सॉफ्टवेयर सूट (LibreOffice Software Suite) प्रोग्राम नहीं है?

- Ans
- ✓ 1. लिब्रे ऑफिस एक्सेल (LibreOffice Excel)
 - ✗ 2. लिब्रे ऑफिस इम्प्रेस (LibreOffice Impress)
 - ✗ 3. लिब्रे ऑफिस कैल्क (LibreOffice Calc)
 - ✗ 4. लिब्रे ऑफिस राइटर (LibreOffice Writer)

Question ID : 264330128733
Status : Not Answered
Chosen Option : --

Q.13 MS-Excel 2010 में नीचे दिया गया फंक्शन क्या रिटर्न करेगा?

=MATCH(12,{10,13,30,40,60},1)

- Ans
- ✗ 1. #N/A
 - ✗ 2. 0
 - ✗ 3. 2
 - ✓ 4. 1

Question ID : 264330128731
Status : Not Answered
Chosen Option : --

Q.14 निम्नलिखित में से किस पोर्ट को माउस पोर्ट भी कहा जाता है?

- Ans
- 1. फायरवायर
 - 2. वीडियो ग्राफिक ऐरे
 - 3. PS/2
 - 4. हाई डेफिनिशन मीडिया इंटरफेस

Question ID : 264330128746
Status : Not Answered
Chosen Option : --

Q.15 MS - Word 365 में, Ctrl + E _____ का शॉर्टकट है।

- Ans
- 1. चयनित टेक्स्ट को राईट अलाइन करने के लिए
 - 2. चयनित टेक्स्ट को जस्टिफाई करने के लिए
 - 3. चयनित टेक्स्ट को सेंटर अलाइन करने के लिए
 - 4. फ़ाइल मेनू विकल्प प्रदर्शित करने के लिए

Question ID : 264330128743
Status : Answered
Chosen Option : 3

Q.16 _____ displays a list of utility configure the computer system and install software and hardware.

- Ans
- 1. Control Panel
 - 2. Taskbar
 - 3. Run
 - 4. Help and Support

Question ID : 264330128730
Status : Answered
Chosen Option : 1

Q.17 _____ are a set of wires, which carries a group of bits in parallel and has an associated control scheme. It provides a communication path between two or more devices of a computer system.

- Ans
- 1. Buses
 - 2. Cache
 - 3. Register
 - 4. Control Unit

Question ID : 264330128740
Status : Answered
Chosen Option : 1

Q.18 _____ पहला ब्राउज़र था जो अलग विंडो में छवियों को प्रदर्शित करने के बजाय टेक्स्ट के साथ छवियों को इनलाइन प्रदर्शित करता था।

- Ans**
- 1. ओपेरा
 - 2. लिंक्स
 - 3. मोज़िल्ला
 - 4. मौज़ेक

Question ID : 264330128737
Status : Answered
Chosen Option : 1

Q.19 निम्नलिखित में से कौन-सा विकल्प, माइक्रोसॉफ्ट द्वारा निर्मित और विकसित किया गया एक वेब ब्राउज़र (web browser) है?

- Ans**
- 1. ओपेरा (Opera)
 - 2. एज़ (Edge)
 - 3. क्रोम (Chrome)
 - 4. ब्रेव (Brave)

Question ID : 264330128698
Status : Answered
Chosen Option : 2

Q.20 MS-Excel 2010 वर्कशीट में करंट रो (current row) की सभी सेलों को सेलेक्ट करने के लिए निम्नलिखित में से किस शॉर्टकट कुंजी(key) का उपयोग किया जाता है?

- Ans**
- 1. Shift + Page down
 - 2. Shift + Spacebar
 - 3. Shift + Page up
 - 4. Ctrl + Spacebar

Question ID : 264330128729
Status : Answered
Chosen Option : 2